

# שווקים פיננסיים ותורת ההשקעות

פרק 8 - תשואה וסיכון, תיקי השקעות ו CAPM

תוכן העניינים

1. כללי ..... 1

## אי וודאות:

### שאלות:

(1) חשב תוחלת, ס.ת ושונות:

פרויקט A		פרויקט B	
הסתברות	NPV	הסתברות	NPV
0.5	1000	0.4	950
0.5	1500	0.2	2000
		0.3	300

(2) חשב תוחלת, שונות וס.ת לכל אחת מהחלופות:

השקעה ב	
הסתברות	רווח
0.2	120
0.3	220
0.4	380
0.1	500

השקעה א	
הסתברות	רווח
0.2	50
0.2	150
0.3	350
0.2	600

(3) במחקר גילו כי לפרט מסוים יש פונקציית תועלת מכסף הנתונה על ידי הטבלה הבאה:

תועלת	0	15	33	75	135
כסף	0	1500	3000	7500	15000

מכאן ניתן להסיק כי:

- לפרט יש תועלת שולית מכסף, ההולכת ופוחתת.
- הפרט בתחומים מסוימים של עושר אוהב סיכון ובתחומים אחרים דוחה סיכון.
- הפרט דוחה סיכון.
- לפי הנתונים ברור כי נפלו טעויות במחקר.
- הפרט אוהב סיכון.

4) איזו השקעה עדיפה ע"פ קריטריון מקסימום תוחלת?

פויקט A		פויקט B	
x	p	x	p
800	0.2	1500	0.1
300	0.2	100	0.4
1000	0.4	500	0.5

5) איזו חלופה עדיפה ע"פ קריטריון מקסימום תוחלת?

ג		ב		א	
הסתברות	X	הסתברות	X	הסתברות	X
0.3	100	0.5	100	1	200
0.2	200	0.5	300		
0.4	300				

6) איזו השקעה עדיפה ע"פ קריטריון מקסימום תוחלת שונות?

פויקט A		פויקט B	
x	p	x	p
100	0.4	50	0.1
300	0.2	500	0.4
400	0.4	200	0.5

7) איזו השקעה עדיפה ע"פ קריטריון מקסימום תוחלת שונות?

A	B
100	50
300	250
400	500
200	300

8) איזו השקעה עדיפה ע"פ קריטריון מקסימום תוחלת תועלת בהנחה שפונקציית התועלת של המשקיע  $Ux = X^{0.5}$  ?

פרויקט A		פרויקט B	
x	p	x	p
2500	0.4	3600	0.5
1225	0.6	400	0.5

23) בשוק נסחרות המניות הבאות :

מניה	A	B
תוחלת	5%	15%
סטיית תקן	13%	40%

מקדם המתאם בין שתי המניות שווה ל-0.6.  
 משקיע מעוניין להשקיע בתיק המורכב משתי המניות ולהשיג תשואה של 12% על השקעתו.  
 חשב מהי ס.ת של התיק.

24) בשוק ההון נסחרות שתי מניות בלבד והמשקיע יכול להשקיע במניות אלו בלבד :

מניה	A	B
תוחלת	10%	20%
סטיית תקן	10%	20%

מקדם המתאם בין מניות שווה לאפס.  
 סמנו את הקביעה הנכונה, בהנחה שהמשקיע דוחה סיכון :

- יתכן וישקיע את כל כספו רק במניה B.
- יתכן וישקיע את כל כספו רק במניה A.
- שיעור ההשקעה המקסימאלי שישקיע במניה A הוא 80%.
- תשובות א' ו-ב' נכונות.
- תשובות א' ו-ג' נכונות.

- 25** בשוק נסחרות שתי מניות A ו-B, כאשר ידוע כי תשואת נכס A גבוהה מזו של B וס.ת של נכס A נמוכה מזו של B. סמנו את הקביעה הנכונה, בהנחה שמקדם המתאם בין הנכסים נמוך מ-0:
- משקיע דוחה סיכון לא ישקיע אף פעם במניה B.
  - יכול להיות שמשקיע דוחה סיכון ישקיע גם במניה B.
  - משקיע אדיש לסיכון ישקיע רק במניה A.
  - משקיע דוחה סיכון לא ישקיע אף פעם במניה A.
  - תשובות ב ו-ג נכונות.

**26** בשוק נסחרות המניות הבאות:

C	B	A	
21%	16%	12%	תוחלת
8%	6%	4%	סטיית תקן

- מקדמי המתאם בין ניירות הערך הם:
- בין A ל-B 0.3, בין A ל-C 0.1 ובין B ל-C 0.
- אם נבנה תיק משלושת הנכסים במשקולות הבאים:
- 40% השקעה ב-A, 30% השקעה ב-B ואת היתרה נשקיע ב-C, מהי סטיית התקן של תשואת התיק?

- 27** נתון:  $E(R_m) = 20\%$ ;  $\sigma(R_m) = 10\%$ ;  $R_f = 4\%$
- בהנחה שמודל CAPM מתקיים בשוק והמשקיעים בוחרים להשקיע את כספם בתיק יעיל המורכב מהשקעה בתיק השוק ובנכס נטול סיכון:
- משקיע א' בוחר תיק יעיל עם תוחלת תשואה של 16% ואילו משקיע ב' בוחר תיק יעיל עם סטיית תקן של 5%.
- סמן את הקביעה הנכונה:
- משקיע א' דוחה סיכון יותר ממשקיע ב'.
  - משקיע ב' דוחה סיכון יותר ממשקיע א'.
  - לא ניתן לדעת מי מהמשקיעים יותר דוחה סיכון.
  - שני המשקיעים דוחי סיכון במידה זהה.
  - שני המשקיעים אוהבי סיכון במידה זהה.

**(28)** הניחו כי שוק ההון נמצא בשיווי משקל לפי CAPM. נתונים שני תיקי השקעות יעילים A ו-B. תיק B צפוי להניב תשואה כפולה מזו של תיק A אולם סטיית התקן של תיק B גבוהה פי שלוש מזו של תיק A. על פי נתונים אלו, שער ריבית נטול סיכון הוא:

א.  $\frac{E(B)}{2}$

ב.  $\frac{E(A)}{2}$

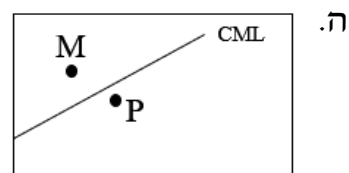
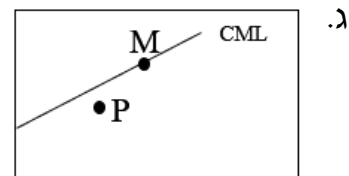
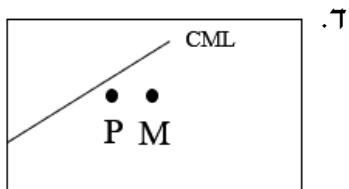
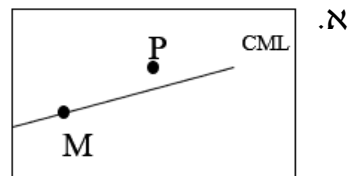
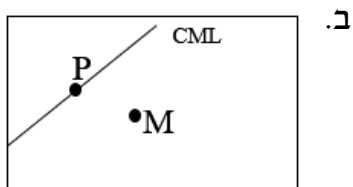
ג.  $\frac{E(A)}{3}$

ד. לא ניתן לקבוע ללא נתונים על תוחלת תשואת תיק השוק.

**(29)** אופיר השקיע את כספו בתיק השקעות יעיל. מנהל התיק הודיע לו כי לכל תוספת של 4% לסיכון (כלומר, לסטיית התקן) על השקעתו, יוכל להגדיל את תוחלת שיעור התשואה ב-4.5%. נאמר לאופיר שפיקדון בבנק מניב תשואה של 5%. מכאן שמשוואת ה-CML היא?

**(30)** בתרשימים הבאים מציינת הנקודה M את "תיק השוק" והנקודה P מציינת תיק אחר כלשהו. הקו המשורטט הוא "קו שוק ההון" (CML). ציר ה-Y בתרשים מציין את תוחלת תשואת התיק ואילו ציר ה-X מציין את סטיית התקן של תשואת התיק.

איזה מהתרשימים הבאים יתכן בשיווי משקל תחת הנחות ה-CAPM?



**31** בשוק נסחרות 2 מניות: מניה א עם  $\beta$  של 3 ותוחלת תשואה של 8% ומניה B עם  $\beta$  של 6 ותוחלת תשואה של 14%.  
מה תשואת נכס חסר סיכון ותשואת תיק השוק?

**32** מניה מסוימת נסחרת בשוק שמתקיימות בו הנחות ה-CAPM. בעוד שנה צפוי מחיר המניה להיות 100 ₪. השונות המשותפת של תשואת המניה עם תשואת תיק השוק היא אפס, שער ריבית נטול סיכון ותוחלת התשואה של תיק השוק (במונחים שנתיים) הן 5%-ו-9% בהתאמה. מכאן, שמחירה הנוכחי של המניה צריך להיות:

א. 92 ₪.

ב. 95 ₪.

ג. 96 ₪.

ד. 100 ₪.

ה. לא ניתן לדעת מה מחיר המניה כיום, על בסיס ידיעת מחיר המניה בעוד שנה.

**33** חברת "מאגדי השקעות" שוקלת להשקיע בפרויקט שעלותו 20,000 ₪ ובתום שנתיים צפוי בו זרם התקבולים הבא:  
35,000 ₪ בהסתברות 0.2, 38,000 ₪ בהסתברות 0.4 ו-59,000 ₪ בהסתברות 0.4. נתון כי מקדם הסיכון השיטתי (ביטא) של הפרויקט 1.2, כמו כן נתון כי תוחלת התשואה השנתית של תיק השוק 35% ושער הריבית השנתי על אג"ח ממשלתי 10%. מהו עניין הפרויקט?

**34** נתון תיק השקעות:

תוחלת תשואה	% השקעה בתיק	נכס
9%	0.3	A
15%	0.4	B
10%	0.3	C

כמו כן ידוע כי תשואת תיק השוק 16%, תשואת נכס נטול סיכון 6%.  
מהי ה- $\beta$  של תיק ההשקעות?

**35** למניה מסוימת יש "ביטא" השווה ל-0.60 כפול ה"ביטא" של תיק השוק. מקדם המתאם בין שיעור התשואה על תיק השוק לבין שיעור התשואה על המניה האמורה, שווה ל-0.60. סמן את הקביעה הנכונה:

- סטיית התקן של שיעור התשואה על המניה שווה לסטיית התקן של שיעור התשואה על תיק השוק.
- סטיית התקן של שיעור התשואה על המניה שווה ל-0.60 כפול סטיית התקן של שיעור התשואה על תיק השוק.
- המניה הינה מניה אגרסיבית.
- סטיית התקן של שיעור התשואה על המניה שווה ל-1.2 כפול סטיית התקן של שיעור התשואה על תיק השוק.
- המניה האמורה הינה תיק השוק עצמו.

**36** מקדם המתאם בין שתי מניות A ו-B הינו 1- . מניה A - תוחלת תשואה 12% וסטיית תקן של 16%. מניה B - תוחלת תשואה 28% וסטיית תקן של 32%. איזה מהתיקים הבאים מציג את הסיכון הנמוך ביותר?

- תיק ובו מניה A בלבד.
- תיק ובו  $\frac{2}{3}$  מ-A ו-  $\frac{1}{3}$  מ-B.
- תיק ובו מניה B בלבד.
- תיק ובו 50% מכל אחת מהמניות.
- תיק ובו  $\frac{1}{3}$  מ-A ו-  $\frac{2}{3}$  מ-B.

**37** משקיע דוחה סיכון יכול להשקיע רק בשני הנכסים הבאים:

נכס B	נכס A	
3.8%	7.4%	$E(R_i)$
8%	30%	$\sigma(R_i)$

$$\rho(R_A, R_B) < 0.267$$

סמנו את הקביעה הנכונה:

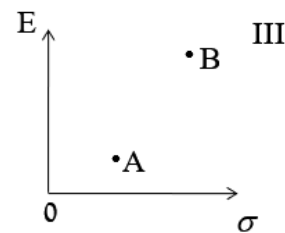
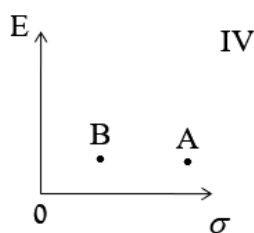
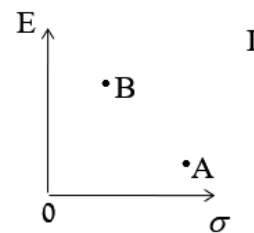
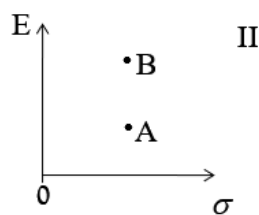
- המשקיע עשוי לרכז את כל השקעתו בנכס B הפחות מסוכן, במטרה להפחית סיכון.
- המשקיע בהכרח יבחר להשקיע בתיק המורכב משני הנכסים (A ו-B), במטרה להפחית סיכון.

- ג. המשקיע עשוי לרכז את כל השקעתו בנכס A המסוכן יותר, למרות סיכונו הגבוה.  
 ד. המשקיע בהכרח לא יבחר לרכז את כל השקעתו בנכס B הפחות מסוכן.  
 ה. תשובות ג' ו-ד' נכונות.

**(38)** נתונות שתי מניות א' ו-ב'. תוחלת התשואה של כל אחת משתי המניות 30%, אולם בעוד שסטיית התקן של א' 20%, סטיית התקן של ב' 10%. כמו כן ידוע כי אין תלות בין תשואות המניות. סמנו את הקביעה הנכונה:

- א. התיקים המשולבים שניתן לייצר תמיד יהיו עדיפים ממניה א'.  
 ב. התיקים המשולבים שניתן לייצר תמיד יהיו עדיפים ממניה ב'.  
 ג. התיקים המשולבים שניתן לייצר תמיד יהיו עדיפים על פני השקעה בכל אחת מהמניות בנפרד.  
 ד. תשובה ג' נכונה, רק כאשר מקדם המתאם בין המניות שלילי.  
 ה. תשובות א' ו-ד' נכונות.

**(39)** להלן 4 מצבים אפשריים לנכסים A ו-B:



- בהנחה שהמשקיע דוחה סיכון והוא יכול להשקיע רק בנכסים A ו-B, כאשר ידוע שמקדם המתאם ביניהם נמוך מ-0, סמן את הקביעה הנכונה
- א. באף אחד מהמצבים לעיל, לא יבחר המשקיע לרכז את כל השקעתו בנכס A.  
 ב. באף אחד מהמצבים לעיל, לא יבחר המשקיע לרכז את כל השקעתו בנכס B.  
 ג. בכל אחד מהמצבים לעיל, יבחר המשקיע תמיד להשקיע בתיק המשלב בין הנכסים A ו-B.  
 ד. רק במצב IV, יבחר המשקיע לרכז את כל השקעתו בנכס B.  
 ה. תשובות א' ו-ד' נכונות.

- (40)** נתונות סטיות התקן של שתי מניות א ו-ב: 16% ו-20% בהתאמה. מקדם המתאם בין שתי המניות 0.6. נבנה תיק ש-30% משוויו מושקע בכל מניה והשאר מושקע בנכס נטול סיכון. מהי סטיית התקן של התיק?
- א. 8%  
 ב. 10%  
 ג. 11%  
 ד. 18%
- ה. לא ניתן לחשב את סטיית התקן של התיק, מאחר וחסר נתון לגבי סטיית התקן של הנכס נטול הסיכון.

- (41)** נתון:  $E(R_m) = 10\%$ ,  $\sigma(R_m) = 10\%$ ,  $R_f = 6\%$ . משקיע א' בוחר תיק יעיל עם תוחלת תשואה של 7% ואילו משקיע ב' בוחר תיק יעיל עם סטיית תקן של 7%. סמנו את הקביעה הנכונה:
- א. משקיע א' דוחה סיכון יותר ממשקיע ב'.  
 ב. משקיע ב' דוחה סיכון יותר ממשקיע א'.  
 ג. לא ניתן לדעת מי מהמשקיעים יותר דוחה סיכון.  
 ד. שני המשקיעים דוחי סיכון במידה זהה.  
 ה. שני המשקיעים אוהבי סיכון במידה זהה.

### תשובות סופיות:

- (1) A: תוחלת-1250, שונות-62500, ס.ת-250.  
 B: תוחלת-870, שונות-431100, ס.ת-656.58.
- (2) א': תוחלת-265, שונות-43525, ס.ת-208.6.  
 ב': תוחלת-292, שונות-14896, ס.ת-122.
- (3) ב' (4) A (5) א' ו-ב' (6) לא ניתן לקבל החלטה
- (7) לא ניתן לקבל החלטה (8) A (23) 29
- (24) ה (25) ה (26) 3.749 (27) ב' (28) ב' (29) ראה סרטון (30) ג' (31) 2 (32) ב' (33) ראה סרטון (34) 0.57 (35) א' (36) ב' (37) ה (38) א' (39) א' (40) ב' (41) א'