

# מתמטיקה תיכונית א

## פרק 9 - קומבינטוריקה

### תוכן העניינים

1	1. בעיות בסיסיות בהסתברות
5	2. פעולות בין מאורעות (חיתוך ואיחוד) מאורעות זרים ומכילים
14	3. כלל המכפלה
18	4. תמורה - סידור עצמים בשורה
21	5. תמורה עם עצמים זהים
23	6. דגימה ללא סדר וללא החזרה
26	7. דגימה ללא סדר ועם החזרה
30	8. דגימה סידורית ללא החזרה ועם החזרה
32	9. סידור עצמים במעגל
35	10. שאלות מסכמות

## הגדרות יסודיות:

### רקע:

**ניסוי מקרי:** תהליך לו כמה תוצאות אפשריות. התוצאה המתקבלת נודעת רק לאחר ביצוע התהליך. למשל: תוצאה בהטלת קובייה, מזג האוויר בעוד שבועיים.

**מרחב מדגם:** כלל התוצאות האפשריות בניסוי המקרי. לדוגמה, בהטלת קובייה:  $\{1, 2, 3, 4, 5, 6\}$ , או: מזג האוויר בעוד שבועיים:  $\{\text{נאה, שרבי, מושלג, גשום, מעונן, חלקית, אביד}\}$ .

**מאורע:** תת קבוצה מתוך מרחב במדגם. מסומן באותיות:  $A, B, C$ . בהטלת קובייה למשל, המאורע 'לקבל לפחות 5' יסומן:  $A = \{5, 6\}$ . המאורע 'לקבל תוצאה זוגית' יסומן:  $B = \{2, 4, 6\}$ .

**גודל מרחב המדגם:** מספר התוצאות האפשריות במרחב המדגם. בהטלת קובייה למשל נקבל:  $|\Omega| = 6$ .

**גודל המאורע:** מספר התוצאות האפשריות במאורע עצמו. למשל, בהטלת הקובייה האירועים הקודמים יסומנו:  $|A| = 2, |B| = 3$ .

**מאורע משלים:** מאורע המכיל את כל התוצאות האפשריות במרחב המדגם פרט לתוצאות במאורע אותו הוא משלים. למשל, בהטלת הקובייה:  $\bar{A} = \{1, 2, 3, 4\}$ ,  $\bar{B} = \{1, 3, 5\}$ .

**מרחב מדגם אחיד (סימטרי):** מרחב מדגם בו לכל התוצאות במרחב המדגם יש את אותה עדיפות, אותה סבירות למשל, קובייה הוגנת, אך לא כמו מזג האוויר בשבוע הבא.

**הסתברות במרחב מדגם אחיד:** במרחב מדגם אחיד הסיכוי למאורע יהיה:  $P(A) = \frac{|A|}{|\Omega|}$ .

דוגמה: מה הסיכוי בהטלת קובייה לקבל לפחות 5?  $P(A) = \frac{|A|}{|\Omega|} = \frac{2}{6}$

דוגמה: מה הסיכוי בהטלת קובייה לקבל תוצאה זוגית?  $P(B) = \frac{|B|}{|\Omega|} = \frac{3}{6}$

**הסתברות במרחב לא אחיד:** תחושב לפי השכיחות היחסית:  $\frac{f}{n}$ .

**דוגמה:**

להלן התפלגות הציונים בכיתה מסוימת:

הציון $x$	מספר התלמידים – השכיחות $f$
5	2
6	4
7	8
8	5
9	4
10	2

מה ההסתברות שתלמיד אקראי שניבחר בכיתה קיבל את הציון 8?  $\frac{f}{n} = \frac{5}{25} = 0.2$

מה ההסתברות שתלמיד אקראי שניבחר בכיתה יכשל?  $\frac{f}{n} = \frac{2}{25} = 0.08$

**הסתברות למאורע משלים:** הסתברות לקבוצת המשלים של המאורע ביחס למרחב המדגם:  $P(\bar{A}) = 1 - P(A)$ . למשל, בדוגמה הקודמת הסיכוי לעבור את הבחינה יכול

להיות מחושב לפי הסיכוי להיכשל:  $P(\bar{A}) = 1 - \frac{2}{25} = \frac{23}{25}$ .

## שאלות:

- (1) מהאותיות  $E, F$  ו- $G$  יש ליצור מילה בת 2 אותיות, לא בהכרח בת משמעות.  
 א. הרכיבו את כל המילים האפשריות.  
 ב. רשמו את המקרים למאורע:  
 i. במילה נמצאת האות  $E$ .  
 ii. במילה האותיות שונות.  
 ג. רשמו את המקרים למאורע  $\bar{A}$ .

- (2) מטילים זוג קוביות.  
 א. רשמו את מרחב המדגם של הניסוי. האם מרחב המדגם אחיד?  
 ב. רשמו את כל האפשרויות לאירועים הבאים:  
 i. סכום התוצאות 7.  
 ii. מכפלת התוצאות 12.  
 ג. חשבו את הסיכויים לאירועים שהוגדרו בסעיף ב'.

- (3) נבחר באקראי ספרה מבין הספרות 0-9.  
 א. מה ההסתברות שהספרה שנבחרה גדולה מ-5?  
 ב. מה ההסתברות שהספרה שנבחרה היא לכל היותר 3?  
 ג. מה ההסתברות שהספרה שנבחרה היא אי זוגית?

- (4) להלן התפלגות מספר מקלטי הטלוויזיה עבור כל משפחה בישוב מסוים:

10	22	18	28	22	מספר משפחות
4	3	2	1	0	מספר מקלטים

- נבחרה משפחה באקראי מהישוב.  
 א. מה ההסתברות שאין מקלטים למשפחה?  
 ב. מה ההסתברות שיש מקלטים למשפחה?  
 ג. מה ההסתברות שיש לפחות 3 מקלטים למשפחה?

- (5) להלן התפלגות מספר המכוניות למשפחה ביישוב "עדן":

10	30	100	40	20	מספר משפחות
4	3	2	1	0	מספר מכוניות

- נבחרה משפחה אקראית מן הישוב.  
 א. מה ההסתברות שאין לה מכוניות?  
 ב. מה ההסתברות שבבעלות המשפחה לפחות 3 מכוניות?  
 ג. מה הסיכוי שבבעלותה פחות מ-3 מכוניות?

- 6) נטיל מטבע רגיל 3 פעמים. בצד אחד של המטבע מוטבע עץ ובצד השני פלי.
- א. רשמו את מרחב המדגם של הניסוי. האם מרחב המדגם הוא אחיד?
- ב. רשמו את כל האפשרויות לאירועים הבאים:
- i. התקבל פעם אחת עץ.
- ii. התקבל לפחות פלי אחד.
- ג. מהו המאורע המשלים ל-D?
- ד. חשבו את הסיכויים לאירועים שהוגדרו בסעיפים ב-ג.

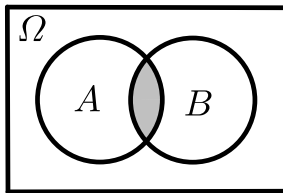
## תשובות סופיות:

- 1) א.  $\Omega = \{EE, EF, EG, FE, FF, FG, GE, GF, GG\}$
- ב.  $A = \{EE, EF, EG, FE, GE\}$ ,  $B = \{EF, EG, FE, FG, GE, GF\}$
- ג.  $\bar{A} = \{FF, FG, GF, GG\}$
- 2) א.  $\Omega = \left\{ \begin{array}{cccccc} (1,1) & (2,1) & (3,1) & (5,1) & (4,1) & (6,1) \\ (1,2) & (2,2) & (3,2) & (4,2) & (5,2) & (6,2) \\ (1,3) & (2,3) & (3,3) & (4,3) & (5,3) & (6,3) \\ (1,4) & (2,4) & (3,4) & (4,4) & (5,4) & (6,4) \\ (1,5) & (2,5) & (3,5) & (4,5) & (5,5) & (6,5) \\ (1,6) & (2,6) & (3,6) & (4,6) & (5,6) & (6,6) \end{array} \right\}$
- ב.  $A = \{(1,6), (2,5), (3,4), (4,3), (5,2), (6,1)\}$ ,  $C = \{(2,6), (3,4), (4,3), (6,2)\}$
- ג. הסיכוי ל-A:  $\frac{1}{6}$
- הסיכוי ל-B:  $\frac{1}{9}$
- 3) א. 0.4    ב. 0.4    ג. 0.5
- 4) א. 0.22    ב. 0.78    ג. 0.32
- 5) א. 0.1    ב. 0.2    ג. 0.8
- 6) א.  $\Omega = \{PPP, PPE, PEP, EPP, PEE, EPE, EEP, EEE\}$
- ב.  $A = \{PPE, PEP, EPP\}$ ,  $D = \{PPP, PPE, PEP, EPP, PEE, EPE, EEP\}$
- ג.  $\bar{D} = \{EEE\}$
- ד.  $\frac{1}{8}$

## פעולות בין מאורעות (חיתוך ואיחוד) – מאורעות זרים ומכילים:

**רקע:**

**פעולת חיתוך:**



נותנת את המשותף בין המאורעות הנחתכים.  
 חיתוך בין המאורע  $A$  למאורע  $B$  יסומן כך:  $A \cap B$ .  
 מדובר בתוצאות שנמצאות ב- $A$  וגם ב- $B$ .

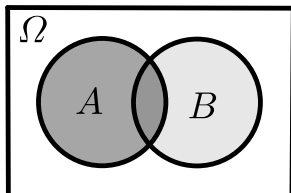
**דוגמה:**

בהטלת קובייה, למשל, האפשרויות לקבל לפחות 5 הן:  $A = \{5, 6\}$ .

האפשרויות לקבל תוצאה זוגית הן:  $B = \{2, 4, 6\}$ .

החיתוך שביניהם הוא:  $A \cap B = \{6\}$ .

**פעולת איחוד:**



נותנת את כל האפשרויות שנמצאות לפחות באחת מהמאורעות, ומסומנת:  $A \cup B$ .  
 הפעולה נותנת את אשר נמצא ב- $A$  או ב- $B$ .  
 כלומר, לפחות אחד מהמאורעות קורה.

**דוגמה:**

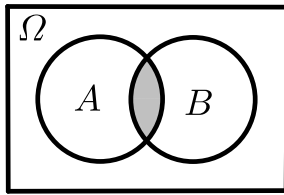
בהטלת קובייה האפשרויות לקבל לפחות 5 הן:  $A = \{5, 6\}$ .

האפשרויות לקבל תוצאה זוגית:  $B = \{2, 4, 6\}$ .

האפשרויות לקבל לפחות 5 וגם תוצאה זוגית:  $A \cup B = \{2, 4, 5, 6\}$ .

**דוגמה (הפתרון נמצא בהקלטה):**

סטודנט ניגש בסמסטר לשני מבחנים. מבחן בסטטיסטיקה ומבחן בכלכלה. ההסתברות שלו לעבור את המבחן בסטטיסטיקה הוא 0.9, ההסתברות שלו לעבור את המבחן בכלכלה הוא 0.8 וההסתברות לעבור את המבחן בסטטיסטיקה ובכלכלה היא 0.75. מה ההסתברות שלו לעבור את המבחן בסטטיסטיקה בלבד? מה ההסתברות שלו להיכשל בשני המבחנים? מה ההסתברות לעבור לפחות מבחן אחד?

**נוסחת החיבור לשני מאורעות:**


ההסתברות של איחוד מאורעות תחושב ע"י הקשר הבא:

$$P(A \cup B) = P(A) + P(B) - P(A \cap B)$$

**חוקי דה מורגן לשני מאורעות:**

$$\overline{A \cup B} = \bar{A} \cap \bar{B}$$

$$\overline{A \cap B} = \bar{A} \cup \bar{B}$$

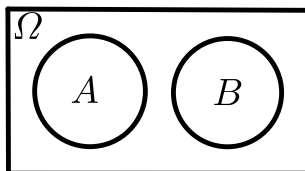
$$P(A \cap B) = 1 - P(\bar{A} \cup \bar{B})$$

$$P(A \cup B) = 1 - P(\bar{A} \cap \bar{B})$$

**שיטת ריבוע הקסם:**

השיטה רלבנטית רק אם יש שני מאורעות במקביל בדומה לתרגיל הקודם:

	$\bar{A}$	$A$	
$B$	$P(\bar{A} \cap B)$	$P(A \cap B)$	$P(B)$
$\bar{B}$	$P(\bar{A} \cap \bar{B})$	$P(A \cap \bar{B})$	$P(\bar{B})$
	$P(\bar{A})$	$P(A)$	1

**מאורעות זרים:**


מאורעות זרים הם כאשר אין להם אף איבר משותף:  $A \cap B = \{ \}$ . כלומר, הם לא יכולים להתרחש בו זמנית.

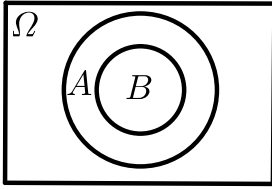
ההסתברות של חיתוך המאורעות היא אפס:  $P(A \cap B) = 0$ .

ההסתברות של איחוד המאורעות תחושב:  $P(A \cup B) = P(A) + P(B)$ .

דוגמה:

בהטלת קובייה, האפשרויות לקבל לפחות 5 הן:  $A = \{5, 6\}$  והאפשרות לקבל 3

היא:  $B = \{3\}$ , ולכן החיתוך ביניהם הוא אפס, כלומר:  $A \cap B = \{ \}$ .

**מאורעות מוכלים:**


נתונים שני מאורעות  $A$  ו- $B$ , השונים מאפס.  
 נאמר שהמאורע  $B$  מוכל במאורע  $A$  אם כל איברי  
 המאורע  $B$  כלולים במאורע  $A$  ונרשום:  $B \subset A$ .

מאורע  $A$  מכיל את מאורע  $B$  כל התוצאות שנמצאות ב- $B$   
 מוכלות בתוך מאורע  $A$ .

קשר זה מסומן באופן הבא:  $B \subset A$ .

$$A \cap B = B \quad P(A \cap B) = P(B)$$

$$A \cup B = A \quad P(A \cup B) = P(A)$$

$$A = \{2, 4, 6\}$$

$$B = \{2, 4\}$$

למשל:

## שאלות:

- (1) מהאותיות  $E, F$  ו- $G$  יוצרים מילה בת 2 אותיות – לא בהכרח בת משמעות. נגדיר את המאורעות הבאים:  
 $A$  - במילה נמצאת האות  $E$ .  
 $B$  - במילה אותיות שונות.  
 א. רשמו את כל האפשרויות לחיתוך  $A$  עם  $B$ .  
 ב. רשמו את כל האפשרויות לאיחוד של  $A$  עם  $B$ .
- (2) תלמיד ניגש בסמסטר לשני מבחנים מבחן בכלכלה ומבחן בסטטיסטיקה. נגדיר את המאורעות הבאים:  
 $A$  - לעבור את המבחן בסטטיסטיקה.  
 $B$  - לעבור את המבחן בכלכלה.  
 היעזרו בפעולות חיתוך, איחוד ומשלים בלבד כדי להגדיר את המאורעות הבאים וסמנו בדיאגרמת וון את השטח המתאים:  
 א. התלמיד עבר רק את המבחן בכלכלה.  
 ב. התלמיד עבר רק את המבחן בסטטיסטיקה.  
 ג. התלמיד עבר את שני המבחנים.  
 ד. התלמיד עבר לפחות מבחן אחד.  
 ה. התלמיד נכשל בשני המבחנים.  
 ו. התלמיד נכשל בכלכלה.
- (3) נתבקשתם לבחור ספרה באקראי. נגדיר את  $A$  להיות הספרה שנבחרה היא זוגית. נגדיר את  $B$  להיות הספרה שנבחרה קטנה מ-5.  
 א. רשמו את כל התוצאות למאורעות הבאים:  
 $A, B, \bar{A}, \bar{B}, A \cap B, A \cup B$ .  
 ב. חשבו את ההסתברויות לכל המאורעות מהסעיף הקודם.
- (4) נסמן ב- $\Omega$  את מרחב המדגם וב- $\phi$  קבוצה ריקה.  
 נתון כי  $A$  הינו מאורע בתוך מרחב המדגם.  
 להלן מוגדרים מאורעות שפתרונם הוא  $\Omega$  או  $\phi$  או  $A$ .  
 קבעו עבור כל מאורע מה הפתרון שלו:  
 $\bar{A}, A \cap \phi, A \cup \phi, A \cap \Omega, A \cup \Omega, \bar{A} \cap A, \bar{\phi}, A \cup \bar{A}$ .

(5) הוגדרו המאורעות הבאים :

$A$  - אדם שגובהו מעל 1.7 מטר

$B$  - אדם שגובהו מתחת ל-1.8 מטר.

קבעו את גובהם של האנשים הבאים :

א.  $A \cap B$

ב.  $A \cup B$

ג.  $\overline{A} \cap B$

ד.  $\overline{A} \cup \overline{B}$

ה.  $\overline{\overline{A}}$

(6) נגדיר את המאורעות הבאים :

$A$  - אדם דובר עברית.

$B$  - אדם דובר ערבית.

$C$  - אדם דובר אנגלית.

השתמשו בפעולות איחוד, חיתוך והשלמה לתיאור המאורעות הבאים :

א. אדם דובר את כל שלוש השפות.

ב. אדם דובר רק עברית.

ג. אדם דובר לפחות שפה אחת מתוך השפות הללו.

ד. אדם אינו דובר אנגלית.

ה. קבוצת התלמידים שדוברים שתי שפות בדיוק (מהשפות הנ"ל).

(7) שתי מפלגות רצות לכנסת הבאה. מפלגת "גדר" תעבור את אחוז החסימה בהסתברות של 0.08 ומפלגת "עתידי" תעבור את אחוז החסימה בהסתברות של 0.20. בהסתברות של 76% שתי המפלגות לא תעבורנה את אחוז החסימה.

א. מה ההסתברות שלפחות אחת מהמפלגות תעבור את אחוז החסימה?

ב. מה ההסתברות ששתי המפלגות תעבורנה את אחוז החסימה?

ג. מה ההסתברות שרק מפלגות "עתידי" תעבור את אחוז החסימה?

(8) במקום עבודה מסוים 40% מהעובדים הם גברים. כמו כן, 20% מהעובדים הם אקדמאים. 10% מהעובדים הינן נשים אקדמאיות.

א. איזה אחוז מהעובדים הם גברים אקדמאיים?

ב. איזה אחוז מהעובדים הם גברים או אקדמאיים?

ג. איזה אחוז מהעובדים הם נשים לא אקדמאיות?

9) הסיכוי של מניה A לעלות הנו 0.5 ביום מסוים והסיכוי של מניה B לעלות ביום מסוים הנו 0.4. בסיכוי של 0.7 לפחות אחת מהמניות תעלה ביום מסוים. חשבו את ההסתברויות הבאות לגבי שתי המניות הללו ביום מסוים:

א. ששתי המניות תעלנה.

ב. שאף אחת מהמניות לא תעלנה.

ג. שמניה A בלבד תעלה.

10) מטילים זוג קוביות, אדומה ושחורה. נגדיר את המאורעות הבאים:

A - בקובייה האדומה התקבלה התוצאה 4 ובשחורה 2.

B - סכום התוצאות משתי הקוביות הוא 6.

C - מכפלת התוצאות בשתי הקוביות היא 10.

א. האם A ו-B מאורעות זרים?

ב. האם המאורע B מכיל את המאורע A?

ג. האם A ו-C מאורעות זרים?

ד. האם A ו-C מאורעות משלימים?

11) עבור המאורעות A ו-B ידועות ההסתברויות הבאות:  $P(A) = 0.6$ ,

$$P(\bar{A} \cap \bar{B}) = 0.1, P(B) = 0.3$$

א. האם A ו-B מאורעות זרים?

ב. חשבו את  $P(\bar{A} \cap B)$ .

12) מטבע הוטל פעמיים. נגדיר את המאורעות הבאים:

A - קיבלנו עץ בהטלה הראשונה.

B - קיבלנו לפחות עץ אחד בשתי ההטלות.

איזו טענה נכונה?

א. A ו-B מאורעות זרים.

ב. A ו-B מאורעות משלימים.

ג. B מכיל את A.

ד. A מכיל את B.

13) בהגרלה חולקו 100 כרטיסים. על 3 מהם רשום חופשה ועל 2 מהם רשום מחשב

שאר הכרטיסים ריקים. אדם קיבל כרטיס אקראי.

א. מה הסיכוי לזכות בחופשה או במחשב? האם המאורעות הללו זרים?

ב. מה ההסתברות לא לזכות בפרס?

14 נתון כי:  $P(A) = 0.3$ ,  $P(B) = 0.25$ ,  $P(A \cup B) = 0.49$

א. חשבו את הסיכוי ל- $P(A \cap B)$ .

ב. האם  $A$  ו- $B$  מאורעות זרים?

ג. מה ההסתברות שרק  $A$  יקרה או שרק  $B$  יקרה?

15  $A$  ו- $B$  מאורעות זרים. נתון ש:  $2 \cdot P(B \cap \bar{A}) = P(A \cap \bar{B}) = P(\bar{A} \cap \bar{B})$ .

מה הסיכוי למאורע  $A$  ומה ההסתברות למאורע  $B$ ?

16 קבעו אילו מהטענות הבאות נכונות:

א.  $A \cap B = B \cap A$ .

ב.  $\overline{A \cup B} = A \cap B$ .

ג.  $A \cap B \cap C = A \cap B \cap (C \cup B)$ .

ד.  $\overline{A \cap B \cap C} = \bar{A} \cup \bar{B} \cup \bar{C}$ .

17 נתון ש- $A$  ו- $B$  מאורעות במרחב מדגם. נתון ש- $P(A) = 0.3$ ,  $P(B) = 0.2$ .

א. האם יתכן ש- $P(A \cup B) = 0.4$ ?

ב. האם יתכן ש- $P(A \cup B) = 0.6$ ?

ג. אם  $A$  ו- $B$  זרים מה הסיכוי  $P(A \cup B)$ ?

ד. אם  $A$  מכיל את  $B$  מה הסיכוי  $P(A \cup B)$ ?

18 מתוך אזרחי המדינה הבוגרים ל-30% חשבון בבנק הפועלים. ל-28% חשבון בבנק לאומי ול-15% חשבון בבנק מזרחי. כמו כן נתון כי 6% מחזיקים חשבון בבנק לאומי ובבנק הפועלים. ל-5% חשבון בבנק פועלים ומזרחי. ול-4% חשבון בבנק לאומי ומזרחי. כמו כן ל-1% מהאוכלוסייה הבוגרת חשבון בנק בשלושת הבנקים יחד.

א. מה אחוז האזרחים להם חשבון בבנק לאומי בלבד?

ב. מה ההסתברות שאזרח כלשהו יחזיק חשבון בבנק פועלים ולאומי אבל לא בבנק מזרחי?

ג. מה ההסתברות שלאזרח יהיה חשבון בפועלים או במזרחי אבל לא בבנק לאומי?

ד. מה אחוז האזרחים שיש להם חשבון בנק אחד בלבד?

ה. מה אחוז האזרחים שיש להם בדיוק חשבון בשני בנקים בלבד?

ו. מה ההסתברות שלאזרח בוגר אין חשבון בנק באף אחד מהבנקים הללו?

ז. לאיזה אחוז מהאזרחים יש חשבון בנק בלפחות אחד מהבנקים הללו?

- 19** חברה מסוימת פרסמה את הנתונים הבאים לגבי האזרחים מעל גיל 21. הנתונים שהתקבלו היו: 40% מהאנשים מחזיקים כרטיס "ויזה", 52% מחזיקים כרטיס "ישראלכרט", 20% מחזיקים כרטיס "אמריקן אקספרס", 15% מחזיקים כרטיס ויזה וגם ישראלכרט, 8% מחזיקים כרטיס ישראלכרט וגם אמריקן אקספרס ו-7% מחזיקים כרטיס ויזה וגם אמריקן אקספרס. כמו כן, 13% לא מחזיקים באף אחד משלושת הכרטיסים הנ"ל.
- א. מה אחוז מחזיקי שלושת כרטיס האשראי גם יחד?
- ב. מה אחוז מחזיקי ישראלכרט וויזה אך לא את אמריקן אקספרס?
- ג. מה אחוז מחזיקי כרטיס אחד בלבד?

**20** הוכיחו:  $P(\bar{A} \cap \bar{B}) = 1 - P(A) - P(B) + P(A \cap B)$ .

- 21**  $A$  ו- $B$  מאורעות במרחב המדגם. האם נכון לומר שהסיכוי שיתרחש בדיוק מאורע אחד הוא:  $P(A) + P(B) - 2P(A \cap B)$ ?

## תשובות סופיות:

- 1 א.  $A \cap B = \{EG, EF, FE, GE\}$   
 ב.  $A \cup B = \{EG, EF, EE, FE, GE, EG, GF\}$
- 2 א.  $B \cap \bar{A}$  ב.  $A \cap \bar{B}$  ג.  $A \cap B$  ד.  $A \cup B$  ה.  $\bar{A} \cap \bar{B}$  ו.  $\bar{B}$
- 3 א.  $A = \{0, 2, 4, 6, 8\}$ ,  $B = \{0, 1, 2, 3, 4\}$ ,  $\bar{B} = \{5, 6, 7, 8, 9\}$   
 $A \cap B = \{0, 2, 4\}$ ,  $A \cup B = \{0, 2, 4, 6, 8, 1, 3\}$
- ב.  $P(A \cup B) = 0.7$ ,  $P(A \cap B) = 0.3$ ,  $P(\bar{B}) = 0.5$ ,  $P(B) = 0.5$ ,  $P(A) = 0.5$
- 4 א.  $\bar{\bar{A}} = A$ ,  $A \cap \phi = \phi$ ,  $A \cup \phi = A$ ,  $A \cap \Omega = A$ ,  $A \cup \Omega = \Omega$   
 $A \cap \bar{A} = \phi$ ,  $\bar{\phi} = \Omega$ ,  $A \cup \bar{A} = \Omega$
- 5 א.  $A \cap B$ : גובה בין 1.7 ל-1.8.  
 ב.  $A \cup B$ : כל גובה אפשרי.  
 ג.  $\bar{A} = \bar{A} \cap B$ : גובה לכל היותר 1.7.  
 ד.  $\bar{A} \cup \bar{B}$ : לכל היותר 1.7 או לפחות 1.8.  
 ה.  $A = \bar{\bar{A}}$ : גובה מעל 1.7.
- 6 א.  $A \cap B \cap C$  ב.  $A \cap \bar{B} \cap \bar{C}$  ג.  $A \cup B \cup C$   
 ד.  $\bar{C}$  ה.  $(A \cap B \cap \bar{C}) \cup (B \cap C \cap \bar{A}) \cup (A \cap C \cap \bar{B})$
- 7 א.  $P(A \cup B) = 0.24$  ב.  $P(A \cap B) = 0.04$  ג.  $P(B \cap \bar{A}) = 0.16$
- 8 א.  $P(A \cap B) = 10\%$  ב.  $P(A \cup B) = 50\%$  ג.  $P(\bar{A} \cap \bar{B}) = 50\%$
- 9 א.  $P(A \cap B) = 0.2$  ב.  $P(\bar{A} \cap \bar{B}) = 0.3$  ג.  $P(A \cup \bar{B}) = 0.3$
- 10 א. לא. ב. כן. ג. כן. ד. לא.
- 11 א. כן. ב.  $P(\bar{A} \cap B) = 0.3$
- 12 הטענה הנכונה היא ג'.
- 13 א. 0.05. ב. 0.95.
- 14 א.  $P(A \cap B) = 0.06$  ב. לא. ג.  $P((A \cap \bar{B}) \cup (B \cap \bar{A})) = 0.43$
- 15  $P(B) = \frac{1}{5}$ ,  $P(A) = \frac{2}{5}$
- 16 א. נכון. ב. לא נכון. ג. לא נכון. ד. נכון.
- 17 א. כן. ב. לא. ג.  $P(A \cup B) = 0.5$  ד.  $P(A \cup B) = 0.3$
- 18 א. 19%. ב. 0.05. ג. 0.31. ד. 46%. ה. 12%. ו. 0.41.
- 19 א. 5%. ב. 10%. ג. 67%.
- 20 שאלת הוכחה.
- 21 נכון.

## קומבינטוריקה – כלל המכפלה:

רקע:

כלל המכפלה:

כלל המכפלה הוא כלל שבאמצעותו אפשר לחשב את גודל המאורע או גודל מרחב המדגם.

אם לתהליך יש  $k$  שלבים:  $n_1$  אפשרויות לשלב הראשון,  $n_2$  אפשרויות לשלב השני...  $n_k$

אפשרויות לשלב  $k$ :

מספר האפשרויות לתהליך כולו יהיה:  $n_1 \cdot n_2 \cdot n_3 \cdots n_k$

למשל, כמה אפשרויות יש למשחק בו מטילים קובייה וגם מטבע? (הסבר בהקלטה)

$$n_1 = 6, n_2 = 2$$

$$n_1 \cdot n_2 = 6 \cdot 2 = 12$$

למשל, כמה לוחיות רישוי בני 5 תווים ניתן ליצור כאשר התו הראשון הוא אות אנגלית והיתר ספרות? (הסבר בהקלטה)

$$n_1 = 26, n_2 = 10, n_3 = 10, n_4 = 10, n_5 = 10$$

$$n_1 \cdot n_2 \cdot n_3 \cdot n_4 \cdot n_5 = 26 \cdot 10 \cdot 10 \cdot 10 \cdot 10 = 260,000$$

## שאלות:

- (1) חשבו את מספר האפשרויות לתהליכים הבאים:
- הטלת קובייה פעמים.
  - מספר תלת ספרתי.
  - בחירת בן ובת מכתה שיש בה שבעה בנים ועשר בנות.
  - חלוקת שני פרסים שונים לעשרה אנשים שונים כאשר אדם לא יכול לקבל יותר מפרס אחד.
- (2) במסעדה מציעים ארוחה עסקית.
- בארוחה עסקית יש לבחור מנה ראשונה, מנה עיקרית ושתיה. האופציות למנה ראשונה הן: סלט ירקות, סלט אנטיפסטי ומרק היום. האופציות למנה עיקרית הן: סטייק אנטריקוט, חזה עוף בגריל, לזניה בשרית ולזניה צמחונית. האופציות לשתיה הן: קפה, תה ולימונדה.
- כמה ארוחות שונות ניתן להרכיב בעזרת התפריט הזה?
  - אדם מזמין ארוחה אקראית. חשב את ההסתברויות הבאות:
    - בארוחה סלט ירקות, לזניה בשרית ולימונדה.
    - בארוחה סלט, לזניה ותה.
- (3) בוחרים באקראי מספר בין חמש ספרות. חשבו את ההסתברויות הבאות:
- המספר הוא זוגי.
  - במספר כל הספרות שונות.
  - במספר כל הספרות זהות.
  - במספר לפחות שתי ספרות שונות.
  - במספר לפחות שתי ספרות זהות.
  - המספר הוא פלינדרום (מספר הנקרא מימין ומשמאל באות הצורה).
- (4) חישה אנשים אקראיים נכנסו למעלית בבניין בן 8 קומות. חשבו את ההסתברויות הבאות:
- כולם ירו בקומה החמישית.
  - כולם ירדו באותה קומה.
  - כולם ירדו בקומה אחרת.
  - ערך ודני ירדו בקומה השישית והיתר בשאר הקומות.

- (5) במפלגה חמישה עשר חברי כנסת. יש לבחור שלושה חברי כנסת לשלושה תפקידים שונים. בכמה דרכים ניתן לחלק את התפקידים הבאים אם:
- חבר כנסת יכול למלא יותר מתפקיד אחד.
  - חבר כנסת לא יכול למלא יותר מתפקיד אחד.
- (6) מטילים קובייה 4 פעמים.
- מה ההסתברות שכל התוצאות תהינה זהות?
  - מה ההסתברות שכל התוצאות תהינה שונות?
  - מה ההסתברות שלפחות שתי תוצאות תהינה זהות?
  - מה ההסתברות שלפחות שתי תוצאות תהינה שונות?
- (7) יש ליצור מילה בת חמש אותיות, לא בהכרח עם משמעות מאותיות ה-ABC (26 אותיות).
- מה ההסתברות שבמילה שנוצרה אין האותיות A, D ו-L?
  - מה ההסתברות שבמילה שנוצרה כל האותיות זהות?
  - מה ההסתברות שבמילה שנוצרה לפחות שתי אותיות שונות זו מזו?
  - מה ההסתברות שהמילה היא פלינדרום? (מילה אשר משמאל לימין, ומימין לשמאל נקראת אותו הדבר).
- (8) יוצרים קוד עם a ספרות (מותר לחזור על אותה ספרה בקוד). חשבו את ההסתברויות הבאות: (בטאו את תשובותיכם באמצעות a).
- בקוד אין את הספרה 5.
  - בקוד מופיעה הספרה 3.
  - בקוד לא מופיעות ספרות אי זוגיות.
- (9) במשחק מזל יש למלא טופס בו n משבצות. כל משבצת מסומנת בסימן V או X. בכמה דרכים שונות ניתן למלא את טופס משחק המזל?

## תשובות סופיות:

- (1) א. 36    ב. 900    ג. 70    ד. 90
- (2) א. 36    ב. i.  $\frac{1}{36}$     ב. ii.  $\frac{1}{9}$
- (3) א. 0.5    ב. 0.3024    ג. 0.0001    ד. 0.9999    ה. 0.6976    ו. 0.01
- (4) א.  $\frac{1}{8^5}$     ב.  $\frac{1}{8^4}$     ג. 0.205    ד.  $\frac{1 \cdot 1 \cdot 7^3}{8^5}$
- (5) א. 3375    ב. 2730
- (6) א.  $\frac{1}{216}$     ב.  $\frac{5}{18}$     ג.  $\frac{13}{18}$     ד.  $\frac{215}{216}$
- (7) א.  $\frac{23^5}{26^5}$     ב.  $\frac{1}{26^4}$     ג.  $1 - \frac{1}{26^4}$     ד.  $\frac{1}{26^2}$
- (8) א.  $0.9^a$     ב.  $1 - 0.9^a$     ג. 0.5
- (9)  $2^n$

## קומבינטוריקה – תמורה – סידור עצמים בשורה:

רקע:

תמורה:

מספר האפשרויות לסדר  $n$  עצמים שונים בשורה:  $n! = 1 \cdot 2 \cdot 3 \cdots (n-1) \cdot n$ .

הערה:  $0! = 1$ .

דוגמאות (הפתרונות בהקלטה):

- בכמה דרכים שונות ניתן לסדר את האותיות:  $a, b, c, d$ ?
- בכמה דרכים שונות ניתן לסדר את האותיות:  $a, b, c, d$ , כך שהאותיות:  $a, b$  יהיו ברצף?
- בכמה דרכים שונות ניתן לסדר את האותיות:  $a, b, c, d$ , כך שהאותיות:  $a, b$  יופיעו בתור הרצף  $ba$ ?

## שאלות:

- (1) חשבו : בכמה אופנים  
 א. אפשר לסדר 4 ספרים שונים על מדף?  
 ב. אפשר לסדר חמישה חיילים בטור?
- (2) סידרו באקראי 10 דיסקים שונים על מדף שמתוכם שניים בשפה העברית.  
 א. מה ההסתברות שהדיסקים בעברית יהיו צמודים זה לזה?  
 ב. מה ההסתברות שהדיסקים בעברית לא יהיו צמודים זה לזה?  
 ג. מה ההסתברות ששני הדיסקים בעברית יהיו כל אחד בקצה השני של המדף?
- (3) בוחנים 5 בנים ו-4 בנות בכיתה ומדרגים אותם לפי הציון שלהם בבחינה. נניח שאין תלמידים בעלי אותו ציון.  
 א. מהו מספר הדירוגים האפשריים?  
 ב. מהו מספר הדירוגים האפשריים אם מדרגים בנים ובנות בנפרד?
- (4) מסדרים 10 ספרים שונים על מדף.  
 א. בכמה אופנים ניתן לסדר את הספרים על המדף?  
 ב. שני ספרים מתוך ה-10 הם ספרים בסטטיסטיקה.  
 א. מה ההסתברות שאם נסדר את הספרים באקראי, הספרים בסטטיסטיקה יהיו צמודים זה לזה?  
 ב. מה ההסתברות שהספרים בסטטיסטיקה לא יהיו צמודים זה לזה?  
 ג. מה ההסתברות שהספרים בסטטיסטיקה יהיו בקצות המדף (כל ספר בקצה אחר)?
- (5) אדם יצר בנגן שלו פלייליסט (רשימת השמעה) של 12 שירים שונים. 4 בשפה העברית, 5 באנגלית ו-3 בצרפתית. האדם הריץ את הפלייליסט באקראי.  
 א. מה ההסתברות שכל השירים באנגלית יופיעו כשירים הראשונים כמקשה אחת?  
 ב. מה ההסתברות שכל השירים באנגלית יופיעו ברצף (לא חובה ראשונים)?  
 ג. מה ההסתברות ששירים באותה השפה יופיעו ברצף (כלומר כל השירים באנגלית ברצף, כל השירים בעברית ברצף וכך גם השירים בצרפתית)?

- 6) 4 בניים ו-4 בנות התיישבו באקראי בשורת כיסאות 1-8 בקולנוע.
- א. מה ההסתברות שיוסי ומיכל לא ישבו זה לצד זה?
- ב. מה ההסתברות שהבנים יתיישבו במקומות האי-זוגיים?
- ג. מה ההסתברות שכל הבנים ישבו זה לצד זה?
- ד. מה ההסתברות שהבנים ישבו זה לצד זה והבנות תשבנה זו לצד זו?

### תשובות סופיות:

- (1) א. 0.24 ב. 0.120
- (2) א. 0.2 ב. 0.8 ג. 0.022
- (3) א. 0.362880 ב. 0.2880
- (4) א. 0.3628800 ב. 0.2 ג. 0.8 ד.  $\frac{1}{45}$
- (5) א.  $\frac{1}{792}$  ב.  $\frac{1}{99}$  ג.  $\frac{1}{4620}$
- (6) א. 0.75 ב. 0.014 ג.  $\frac{1}{14}$  ד.  $\frac{1}{35}$

## קומבינטוריקה – תמורה עם עצמים זהים:

**רקע:**

**תמורה עם חזרות:**

אם יש בין העצמים שיש לסדר עצמים זהים, יש לבטל את הסידור הפנימי שלהם על ידי חלוקה בסידורים הפנימיים שלהם.

מספר האופנים לסדר  $n$  עצמים בשורה, ש- $n_1$  מהם זהים מסוג 1,  $n_2$  זהים מסוג 2

$$\frac{n!}{n_1! \cdot n_2! \cdot \dots \cdot n_r!} : n_r \text{ זהים מסוג } r$$

דוגמה (תשובה בהקלטה):

כמה מילים ניתן ליצור מכל האותיות הבאות: W, W, T, T, K, K

## שאלות:

1) במשחק יש לצבוע שתי משבצות מתוך המשבצות הבאות:

--	--	--	--	--

בכמה דרכים שונות ניתן לבצע את הצביעה?

2) בכמה אופנים שונים אפשר לסדר בשורה את האותיות: ב, ע, ב, ע, ג?

3) בבית נורות מקום ל-6 נורות. בחרו שתי נורות אדומות, שתי נורות צהובות ושתי נורות כחולות. כמה דרכים שונות יש לסדר את הנורות?

4) נרצה ליצור מספר מכל הספרות הבאות: 1, 2, 2, 2, 6. כמה מספרים כאלה אפשר ליצור?

5) במשחק בול פגיעה יש 10 משבצות, אדם צובע 4 משבצות מתוך ה-10. המשתתף השני צריך לנחש אילו 4 משבצות נצבעו. מה ההסתברות שבניחוש אחד יהיה בול פגיעה?

6) כמה אותות שונים, שכל אחד מורכב מ-10 דגלים שונים, ניתן ליצור, אם 4 דגלים הם לבנים, 3 כחולים, 2 אדומים ואחד שחור. דגלים שווי צבע זהים זה לזה לחלוטין.

## תשובות סופיות:

1) 10.

2) 60.

3) 90.

4) 20.

5)  $\frac{1}{210}$ .

6) 12600.

## קומבינטוריקה – דגימה ללא סדר וללא החזרה:

רקע:

מדגם לא סדור בדגימה ללא החזרה:

מספר האפשרויות לדגום  $k$  עצמים שונים מתוך  $n$  עצמים שונים כאשר אין

משמעות לסדר העצמים הנדגמים ואין החזרה:  $\frac{n!}{(n-k)!k!} = \binom{n}{k} = \frac{(n)_k}{k!}$

דוגמה:

מתוך 10 תלמידים יש לבחור שלושה נציגים לוועד ללא תפקידים מוגדרים:

$$\binom{10}{3} = \frac{10!}{7!3!} = 120$$

הערות:

$$\binom{n}{k} = \binom{n}{n-k} \quad (1)$$

$$\binom{n}{n-1} = \binom{n}{1} = n \quad (2)$$

$$\binom{n}{n} = \binom{n}{0} = 1 \quad (3)$$

## שאלות:

- (1) בכיתה 15 בנות ו-10 בנים. יש לבחור 5 תלמידים שונים מהכיתה לנציגות הכיתה. בכמה דרכים אפשר להרכיב את הנציגות, אם:
- אין שום הגבלה לבחירה.
  - מעוניינים ש-3 בנות ו-2 בנים ירכיבו את המשלחת.
  - לא יהיו בנים במשלחת.
- (2) סטודנט מעוניין לבחור 5 קורסי בחירה בסמסטר זה. לפניו רשימה של 10 קורסים לבחירה: 5 במדעי הרוח, 3 במדעי החברה, 2 במתמטיקה.
- כמה בחירות שונות הוא יכול ליצור לעצמו?
  - כמה בחירות יש לו בהן 3 קורסים הם ממדעי הרוח?
  - כמה בחירות יש לו אם 2 מהן לא ממדעי הרוח?
  - כמה בחירות יש לו אם 2 ממדעי הרוח, 2 ממדעי החברה ו-1 ממתמטיקה?
- (3) בכיתה 30 תלמידים מתוכם 12 תלמידים ו-18 תלמידות. יש לבחור למשלחת 4 תלמידים מהכיתה. התלמידים נבחרים באקראי.
- מה ההסתברות שהמשלחת תורכב רק מבנות?
  - מה ההסתברות שבמשלחת תהיה רק בת אחת?
  - מה ההסתברות שבמשלחת תהיה לפחות בת אחת?
- (4) במשחק הלוטו יש לבחור 5 מספרים מתוך 45. המספרים הם 1-45.
- מה ההסתברות שבמשחק הזוכה כל המספרים הם זוגיים?
  - מה ההסתברות שבמספר הזוכה יש לכל היותר מספר זוגי אחד?
  - מה ההסתברות שבמספר הזוכה לפחות פעם אחת יש מספר זוגי?
  - מה ההסתברות שבמספר הזוכה כל המספרים גדולים מ-30?
- (5) בחפיסת קלפים ישנם 52 קלפים: 13 בצבע שחור בצורת עלה, 13 בצבע אדום בצורת לב, 13 בצבע אדום בצורת יהלום ו-13 בצבע שחור בצורת תלתן. מכל צורה (מתוך ה-4) יש 9 קלפים שמספרם 10-2, שאר הקלפים הם; נסיך, מלכה, מלך ואס (בעצם מדובר בקופסת קלפים רגילה ללא ג'וקר). שני אנשים משחקים פוקר. כל אחד מקבל באקראי 5 קלפים (ללא החזרה).
- מה ההסתברות שעודד יקבל את כל המלכים וערן את כל המלכות?
  - מה ההסתברות שאחד השחקנים יקבל את הקלף אס-לב?
  - מה ההסתברות שערן יקבל קלפים שחורים בלבד ועודד יקבל שני קלפים שחורים בדיוק?
  - מה ההסתברות שערן יקבל לפחות 3 קלפים שהם מספר (אס אינו מספר)?

- 6 במכללה 4 מסלולי לימוד. בכל מסלול לימוד 5 מזכירות. יש ליצור וועד של 5 מזכירות מתוך כלל המזכירות במכללה. יוצרים וועד באופן אקראי. חשבו את ההסתברויות הבאות:
- א. כל המזכירות בוועד יהיו ממסלול "מדעי ההתנהגות".  
 ב. כל המזכירות בוועד יהיו מאותו המסלול.  
 ג. מכל מסלול תבחר לפחות מזכירה אחת.

7 הוכיחו כי: 
$$\binom{n}{k} + \binom{n}{k+1} = \binom{n+1}{k+1}$$

- 8  $2n$  בנים ו- $2n$  בנות מתחלקים ל-2 קבוצות.
- א. בכמה דרכים שונות ניתן לבצע את החלוקה אם שתי הקבוצות צריכות להיות שוות בגודלן ויש בכל קבוצה מספר שווה של בנים ובנות?  
 ב. בכמה דרכים ניתן לבצע את החלוקה אם יש מספר שווה של בנים ובנות בכל קבוצה אבל הקבוצות לא בהכרח בגודל שווה.

### תשובות סופיות:

- 1 א. 53130      ב. 20475      ג. 3003
- 2 א. 252      ב. 100      ג. 100      ד. 100
- 3 א. 0.1117      ב. 0.1445      ג. 0.9819
- 4 א. 0.02      ב. 0.187      ג. 0.972      ד. 0.00246
- 5 א. 0      ב. 0.1923      ג. 0.009      ד. 0.837
- 6 א.  $6.45 \cdot 10^{-5}$       ב.  $2.58 \cdot 10^{-4}$       ג. 0.3225
- 7 שאלת הוכחה.

8 א.  $\binom{2n}{n}$       ב.  $\sum_{i=1}^n \binom{2n}{i}^2$

## קומבינטוריקה – דגימה ללא סדר ועם החזרה:

### רקע:

מספר האפשרויות לבחור  $k$  עצמים (לא בהכרח שונים) מתוך  $n$  עצמים שונים, ללא חשיבות לסדר העצמים הנדגמים, ועצם יכול להיבחר יותר מפעם אחת:

$$\binom{n+k-1}{k} = \binom{n+k-1}{n-1}$$

### דוגמה:

בכמה דרכים שונות ניתן לחלק 4 כדורים זהים לשלושה תאים שבכל תא יש מקום ליותר מכדור אחד? (פתרון והסבר הרעיון בהקלטה)

### סיכום כללי של המצבים האפשריים לדגימה:

מספר האפשרויות לבחירת $k$ עצמים מתוך אוכלוסייה של $n$ עצמים שונים		
ללא התחשבות בסדר הבחירה	עם התחשבות בסדר הבחירה	ביצוע הדגימה
$\binom{n+k-1}{k} = \binom{n+k-1}{n-1}$	$n^k$	עם החזרה
$\binom{n}{k} = \frac{n!}{k!(n-k)!}$	$(n)_k = \frac{n!}{(n-k)!}$	ללא החזרה

## שאלות:

- (1) בכמה דרכים יש להכניס 8 כדורים זהים לחמישה תאים כאשר תא יכול להכיל יותר מכדור אחד?
- (2) בכמה אופנים ניתן להכניס 5 מחברות זהות ל-3 תיקים שונים?
- (3) בכמה אופנים ניתן להכניס 8 כדורים לתוך 3 תאים שונים כאשר:  
 א. הכדורים זהים.  
 ב. הכדורים שונים זה מזה.
- (4) בכמה דרכים יש לסדר 10 משחקים ב-4 מגירות כאשר:  
 א. המשחקים שונים זה מזה.  
 ב. במשחקים זהים זה לזה.
- (5) מהו מספר הפתרונות השלמים האי שליליים למשוואה הבאה:  $X_1 + X_2 = 3$ .
- (6) מהו מספר הפתרונות השלמים האי-שליליים למשוואה הבאה:  
 $X_1 + X_2 + X_3 + X_4 = 20$ .
- (7) במכירה פומבית הוצגו 4 פמוטי זהב זהים לחלוטין. על קניית היצירות התחרו 3 אספנים. אספן יכול היה לרכוש יותר מפמוט אחד. בהנחה וכל הפמוטים נמכרו, כמה אפשרויות מכירה לאספנים השונים ישנן?
- (8) נתונות האותיות: A, B, C ו-D. נרצה לבחור שתי אותיות מתוך קבוצת האותיות הללו כאשר מותר לבחור אותה אות יותר מפעם אחת אבל אין חשיבות לסדר האותיות שנבחרו. כמה דרכים ישנן לבחירה?
- (9) במשחק הלוטו החדש יש לבחור ארבעה מספרים מתוך המספרים 1-20. אין חשיבות לסדר הפנימי של המספרים, אלא רק לגלות אילו מספרים עלו בגורל. מה הסיכוי לגלות את המספרים שעלו בגורל אם:  
 א. אסור לבחור את אותו מספר יותר מפעם אחת.  
 ב. מותר לחזור על אותו מספר יותר מפעם אחת.

- (10)** ישנם 5 כדורים להכניס ל-6 תאים.  
 חשבו את מספר האפשרויות להכנסת הכדורים כאשר:
- הכדורים שונים ותא יכול להכיל יותר מכדור אחד.
  - הכדורים זהים ותא יכול להכיל יותר מכדור אחד.
  - הכדורים שונים ותא לא יכול להכיל יותר מכדור אחד.
  - הכדורים זהים ותא לא יכול להכיל יותר מכדור אחד.

- (11)** ישנם  $k$  כדורים להכניס ל- $n$  תאים ( $n > k$ ).  
 חשבו את מספר האפשרויות להכנסת הכדורים כאשר:
- הכדורים שונים ותא יכול להכיל יותר מכדור אחד.
  - הכדורים זהים ותא יכול להכיל יותר מכדור אחד.
  - הכדורים שונים ותא לא יכול להכיל יותר מכדור אחד.
  - הכדורים זהים ותא לא יכול להכיל יותר מכדור אחד.

## תשובות סופיות:

(1) .495

(2) .21

(3) א. .45

ב. .6561

(4) א.  $4^{10}$

ב. .286

(5) .4

(6) .1771

(7) .15

(8) .10

(9) א.  $\frac{1}{4845}$

ב.  $\frac{1}{8855}$

(10) א. 7776

ב. .252

ג. .720

ד. .6

(11) א.  $n^k$

ב.  $\binom{n+k-1}{k} = \binom{n+k-1}{n-1}$

ג.  $(n)_k = \frac{n!}{(n-k)!}$

ד.  $\binom{n}{k} = \frac{n!}{k!(n-k)!}$

## קומבינטוריקה – דגימה סידורית ללא החזרה ועם החזרה:

**רקע:**

**מדגם סידור בדגימה עם החזרה:**

מספר האפשרויות בדגימת  $k$  עצמים מתוך  $n$  עצמים שונים כאשר הדגימה היא עם החזרה והמדגם סדור הוא:  $n^k$ .

**דוגמה:**

בוחרים שלושה תלמידים מתוך עשרה לייצג ועד בו תפקידים שונים, תלמיד יכול למלא יותר מתפקיד אחד.

כמה ועדים שונים ניתן להרכיב?  $10^3 = 1,000$ ,  $k = 3$ ,  $n = 10$ .

**מדגם סידור ללא החזרה:**

מספר האפשרויות בדגימת  $k$  עצמים שונים מתוך  $n$  עצמים שונים ( $n \geq k$ ) כאשר המדגם סדור ואין החזרה של עצמים נדגמים הינו:

$$\cdot (n)_k = n(n-1)(n-2)\dots(n-(k-1)) = \frac{n!}{(n-k)!}$$

**דוגמה:**

שלושה תלמידים נבחרים מתוך 10 לייצג וועד בו תפקידים שונים.

תלמיד לא יכול למלא יותר מתפקיד אחד:  $\frac{10!}{7!} = 10 \cdot 9 \cdot 8 = 720$ .

## שאלות:

- (1) במפלגה 20 חברי כנסת, מעוניינים לבחור שלושה חברי כנסת לשלושה תפקידים שונים.
- א. חבר כנסת יכול למלא יותר מתפקיד אחד.  
 כמה קומבינציות ישנן לחלוקת התפקידים?
- ב. חבר כנסת לא יכול למלא יותר מתפקיד אחד.  
 כמה קומבינציות יש לחלוקת התפקידים?
- (2) במשחק מזל יש 4 משבצות ממוספרות מ-A-D (A עד D). בכל משבצת יש למלא סיפרה (0-9). הזוכה הוא זה שניחש נכונה את כל הספרות בכל המשבצות בהתאמה.
- א. מה ההסתברות לזכות במשחק?  
 ב. מה ההסתברות שבאף משבצת לא תהיה את הספרה 3 במספר הזוכה?  
 ג. מה ההסתברות שהתוצאה 4 תופיע לפחות פעם אחת במספר הזוכה?
- (3) קבוצה מונה 22 אנשים, מה ההסתברות שלפחות לשניים מהם יהיה יום הולדת באותו התאריך?
- (4) שלושה אנשים קבעו להיפגש במלון הילטון בסינגפור. הבעיה היא שבסינגפור ישנם 5 מלונות הילטון.
- א. מה ההסתברות שכל השלושה ייפגשו?  
 ב. מה ההסתברות שכל אחד יגיע לבית מלון אחר?
- (5) בכיתה 40 תלמידים. מעוניינים לבחור חמישה מהם לוועד כיתה. בכמה דרכים ניתן להרכיב את הוועד אם:
- א. בוועד 5 תפקידים שונים ותלמיד יכול למלא יותר מתפקיד אחד.  
 ב. בוועד 5 תפקידים שונים ותלמיד לא יכול למלא יותר מתפקיד אחד.

## תשובות סופיות:

- (1) א. 8000      ב. 6840
- (2) א. 0.0001      ב. 0.6561      ג. 0.3439
- (3) 0.476
- (4) א. 0.04      ב. 0.48
- (5) א.  $40^5$       ב. 78,960,960


## קומבינטוריקה – סידור עצמים במעגל:

רקע:

מספר האפשרויות לסדר  $n$  עצמים שונים במעגל בו אין מקומות מסומנים הוא:  $(n-1)!$ .

דוגמה (פתרון בהקלטה):

דנה, רמה ושדה רוצות ליצור מעגל ריקוד. בכמה דרכים שונות הן יכולות להחזיק אחת לשנייה את הידיים, כדי ליצור את המעגל?



## שאלות:

- (1) מעצב פנים יצר ללקחותיו מניפת צבעים המוצגת במעגל. במניפה 12 צבעים שונים מתוכם 3 בגווני אפור, 3 בגווני לבן, 3 בגווני ירוק ו-3 בגווני צהוב. כמה מניפות שונות ניתן ליצור כאשר:
- גווני האפור צמודים זה לזה.
  - צבעים באותו גוון צמודים זה לזה.



- (2) דני יוצר שרשרת חרוזים הבנויה מעשרה חרוזים בצבעים שונים. הוא משחיל את עשרת החרוזים באקראי. חשבו את ההסתברויות הבאות:
- הסידור יהיה בדיוק כמוראה בציר.
  - החרוז הלבן והכתום יהיו בסמוך זה לזה.

- (3) אבא הכין עוגת יומולדת עגולה. הוא סידר 7 נרות כמוראה בשרטוט. הנרות זהים ונבדלים זה בזה בצבע: 2 כחולים זהים, 2 אדומים זהים, 2 צהובים זהים ו-1 כתום. סידור הנרות נעשה באקראי. חשבו את ההסתברויות הבאות:



- הנרות הצהובים סמוכים זה לזה.
- נרות באותו צבע סמוכים זה לזה.

- (4)  $n$  בנים ו- $n$  בנות הסתדרו במעגל באקראי.



- מה הסיכוי שכל הבנים יסתדרו זה לצד זה בלי להתפצל?
- מה הסיכוי שכל הבנים יסתדרו זה לצד זה בלי להתפצל וגם כל הבנות יסתדרו זו לצד זו בלי להתפצל?
- מה הסיכוי שהסידור יהיה שמימין ומשמאל לכל בן תהיה בת?

## תשובות סופיות:

$$(1) \quad \text{א. } .2177280 \quad \text{ב. } .7776$$

$$(2) \quad \text{א. } \frac{1}{9!} \quad \text{ב. } \frac{2}{9}$$

$$(3) \quad \text{א. } \frac{1}{3} \quad \text{ב. } \frac{1}{15}$$

$$(4) \quad \text{א. } \frac{(n!)^2}{(2n-1)!} \quad \text{ב. } \frac{(n!)^2}{(2n-1)!} \quad \text{ג. } \frac{(n-1)!(n!)}{(2n-1)!}$$

## קומבינטוריקה – שאלות מסכמות:

### שאלות:

- (1) בכיתה 40 תלמידים. מעוניינים לבחור חמישה מהם לוועד כיתה. בכמה דרכים ניתן להרכיב את הוועד אם:
- בוועד 5 תפקידים שונים ותלמיד יכול למלא יותר מתפקיד אחד.
  - בוועד 5 תפקידים שונים ותלמיד לא יכול למלא יותר מתפקיד אחד.
  - אין תפקידים שונים בוועד.
- (2) במשרד 30 עובדים, יש לבחור ארבעה עובדים למשלחת לחו"ל. בכמה דרכים ניתן להרכיב את המשלחת?
- במשלחת ארבע משימות שונות שיש למלא וכל עובד יכול למלא יותר ממשימה אחת.
  - כמו בסעיף א' רק הפעם עובד לא יכול למלא יותר ממשימה אחת.
  - מעוניינים לבחור ארבעה עובדים שונים למשלחת שבה לכולם אותו התפקיד.
- (3) מעוניינים להרכיב קוד סודי. הקוד מורכב מ-2 ספרות שונות ו-3 אותיות שונות באנגלית (26 אותיות אפשריות).
- כמה קודים שונים ניתן להרכיב?
  - כמה קודים שונים ניתן להרכיב אם הקוד מתחיל בספרה ונגמר בספרה?
  - כמה קודים ניתן להרכיב אם הספרות חייבות להיות צמודות זו לזו?
  - בכמה קודים הספרות לא מופיעות ברצף?
- (4) בארונית 4 מגירות. ילד התבקש על ידי אמו לסדר 6 משחקים בארונית. הילד מכניס את המשחקים באקראי למגירות השונות. כל מגירה יכולה להכיל את כל המשחקים יחד.
- מה ההסתברות שהילד יכניס את כל המשחקים למגירה העליונה?
  - מה ההסתברות שהילד יכניס את כל המשחקים לאותה מגירה?
  - מה ההסתברות ש"דומינו" יוכנס למגירה העליונה ויתר המשחקים לשאר המגירות.
  - מה ההסתברות ש"דומינו" לא יוכנס למגירה העליונה?

- (5) בעיר מסוימת מתמודדות למועצת העיר 4 מפלגות שונות: "הירוקים", "קדימה", "העבודה" ו"הליכוד". 6 אנשים אינם יודעים למי להצביע, ולכן בוחרים באקראי מפלגה כלשהי.
- מה ההסתברות שכל ה-6 יבחרו באותה מפלגה?
  - מה ההסתברות שמפלגת ה"ירוקים" לא תקבל קולות?
  - מה ההסתברות שמפלגת ה"ירוקים" תקבל בדיוק 3 קולות וכל מפלגה אחרת תקבל קול 1 בלבד?
  - מה ההסתברות שמפלגת "הירוקים" תקבל 2 קולות, מפלגת "העבודה" תקבל 2 קולות ומפלגת "הליכוד" תקבל 2 קולות?
- (6) 5 חברים נפגשו ורצו לראות סרט. לרשותם ספריה המונה 8 סרטים שונים. כל אחד התבקש לבחור סרט באקראי.
- מה ההסתברות שכולם יבחרו את אותו הסרט?
  - מה ההסתברות שכולם יבחרו את "הנוסע השמיני"?
  - מה ההסתברות שכל אחד יבחר סרט אחר?
  - מה הסיכוי שלפחות שניים יבחרו את אותו הסרט?
  - מה ההסתברות שיוסי וערן ייבחרו את "הנוסע השמיני" וכל השאר סרטים אחרים?
  - מה ההסתברות שהנוסע השמיני לא ייבחר על ידי אף אחד מהחברים?
  - לקחו את 8 הסרטים ויצרו מהם רשימה. נתון שברשימה 3 סרטי אימה, מה ההסתברות שברשימה שנוצרה יופיעו 3 סרטי האימה ברצף?
- (7) בקבוצה 10 אנשים. יש ליצור שתי וועדות שונות מתוך הקבוצה: אחת בת 4 אנשים והשנייה בת 3 אנשים. כל אדם יכול להיבחר רק לוועדה אחת. חשבו את מס' הדרכים השונות ליצירת הוועדות הללו כאשר:
- אין בוועדות תפקידים.
  - בכל וועדה יש תפקיד אחד של אחראי הוועדה.
  - בכל וועדה כל התפקידים שונים.
- (8) 4 גברים ו-3 נשים מתיישבים על כסאות בשורה של כסאות תיאטרון. בכל שורה 10 כסאות. בכמה דרכים שונות ניתן לבצע את ההושבה:
- ללא הגבלה.
  - כל הגברים ישבו זה ליד זה וגם כל הנשים תשבנה זו ליד זו.
  - שני גברים בקצה אחד ושני הגברים האחרים בקצה שני.
- (9) בהגרלה ישנם 10 מספרים מ-1 עד 10. נבחרו באקראי 5 מספרים. מה ההסתברות שהמספר 7 הוא השני בגודלו מבין המספרים שנבחרו?

- 10** 6 אנשים עלו לאוטובוס שעוצר ב-10 תחנות.  
 כל אדם בוחר באופן עצמאי ואקראי באיזו תחנה לרדת.  
 א. מה ההסתברות שכל אחד יורד בתחנה אחרת?  
 ב. מה ההסתברות שבדיוק 3 ירדו בתחנה החמישית?  
 ג. מה ההסתברות שרונית תרד בתחנה השנייה והשאר לא?  
 ד. מה ההסתברות שכולם ירדו בתחנות 5,6 ולפחות אחד בכל אחת מהתחנות הללו?

- 11** ברכבת 4 מקומות ישיבה עם כיוון הנסיעה 41 מקומות ישיבה נגד כיוון הנסיעה.



- 4 זוגות התיישבו במקומות אלו באקראי.  
 א. בכמה דרכים שונות ניתן להתיישב?  
 ב. מה ההסתברות שהזוג כהן ישבו זה לצד זה עם כיוון הנסיעה?  
 ג. מה ההסתברות שהזוג כהן ישבו זה לצד זה?  
 ד. מה ההסתברות שהזוג כהן ישבו כל אחד ליד החלון? (בכל שורה יש חלון).  
 ה. מה ההסתברות שהזוג כהן יישבו כך שכל אחד בכיוון נסיעה מנוגד?  
 ו. מה ההסתברות שהזוג כהן יישבו אחד מול השני מול פנים.  
 ז. מה ההסתברות שכל הגברים ייסעו עם כיוון הנסיעה וכל הנשים תשבנה נגד כיוון הנסיעה?  
 ח. מה ההסתברות שכל זוג ישב אחד מול השני?

- 12** סיסמא מורכבת מ-5 תווים, תווים אלו יכולים להיות ספרה (0-9) ואותיות ה-ABC (26 אותיות). כל תו יכול לחזור על עצמו יותר מפעם אחת.  
 א. כמה סיסמאות שונות יש?  
 ב. כמה סיסמאות שונות יש שבהן כל התווים שונים?  
 ג. כמה סיסמאות שונות יש שבהן לפחות ספרה אחת ולפחות אות אחת?

- 13** מתוך קבוצה בת  $n$  אנשים רוצים לבחור 3 אנשים לוועדה. בכמה דרכים שונות ניתן לבצע את הבחירה? בטא את תשובתך באמצעות  $n$ .  
 א. בוועדה אין תפקידים ויש לבחור 3 אנשים שונים לוועדה.  
 ב. בוועדה תפקידים שונים. וכל אדם לא יכול למלא יותר מתפקיד אחת.  
 ג. בוועדה תפקידים שונים ואדם יכול למלא יותר מתפקיד אחד.

- 14** שני אנשים מטילים כל אחד מטבע  $n$  פעמים. בטאו באמצעות  $n$  את הסיכוי שלכל אחד מהם אותו מספר פעמים של התוצאה "ראש".

- 15** יוצרים קוד עם  $a$  ספרות (מותר לחזור על אותה ספרה בקוד).  
 חשבו את ההסתברויות הבאות (בטאו את תשובותיכם באמצעות  $a$ ):
- בקוד אין את הספרה 5.
  - בקוד מופיעה הספרה 3.
  - בקוד לא מופיעות ספרות אי זוגיות.
- 16** זוג קוביות הוטלו מספר פעמים. כמה פעמים יש להטיל את זוג הקוביות בכדי שבהסתברות של לפחות 0.5 תתקבל לפחות הטלה אחת (של הזוג) עם סכום תוצאות 12?
- 17** בוחרים באופן מקרי מספר בין 6 ספרות.
- מה הסיכוי שהספרה 5 תופיע בדיוק פעם אחת במספר?
  - מה הסיכוי שהספרה 4 תופיע לפחות פעם אחת וגם הספרה 0 תופיע לפחות פעם אחת במספר?
- 18** במשרד של דנה 5 תיקיות אותן היא מסדרת באקראי בטור. 3 תיקיות הן אדומות ו-2 תיקיות הן כחולות. דנה רשמה שני פתקים ושמה כל פתק במקום אקראי בין התיקיות (לכל פתק יש 4 אפשרויות למיקום).
- מה הסיכוי ששני הפתקים יהיו במקומות שונים?
  - מה הסיכוי שבין שני הפתקים יש שתי תיקיות אדומות ואין תיקיות כחולות?
  - מה הסיכוי שבין שני הפתקים יש בדיוק תיקיה אחת?
  - מה הסיכוי שבין שני הפתקים יש שתי תיקיות ואחת מהן כחולה?
- 19** לירון 6 עטים אותם הוא מכניס באקראי ל-3 קלמרים שונים. לכל עט הוא בוחר באופן מקרי קלמר.
- מה הסיכוי שיש בדיוק 2 קלמרים שבכל קלמר בדיוק 2 עטים?
  - מה הסיכוי שיש בדיוק קלמר אחד שבו בדיוק 2 עטים?
  - מה הסיכוי שיש בדיוק 3 קלמרים שבכל אחד בדיוק 2 עטים?
- 20** מסדרים  $n$  כדורים שונים ב  $n$  תאים שונים (תא יכול להכיל יותר מכדור אחד). מה הסיכוי שבתא  $i$  ( $1 \leq i \leq n$ ) יהיו בדיוק  $k$  כדורים?
- 21** בתחרות ריצה עלו לגמר 6 מתמודדים. רק בשלושת המקומות הראשונים זוכים במדליות. נניח שכל המתמודדים מסיימים את התחרות.
- כמה אפשרויות יש לסיים את התחרות?
  - כמה אפשרויות יש לכך שמתמודד מספר 6 יקבל מדליה?
  - כמה אפשרויות יש לכך שמתמודד מספר 6 יקבל מדליה או שמתמודד מספר 2 יקבל מדליית זהב?

- (22)** מטילים קובייה הוגנת  $k$  פעמים.
- מה הסיכוי שהתוצאה הכי גדולה שהתקבלה היא  $j$  ?
  - מה הסיכוי שהתוצאה הכי קטנה שהתקבלה היא  $i$  ?
  - עבור  $i \leq j$ , מה הסיכוי שהתוצאה הכי גדולה היא  $j$  וגם התוצאה הכי קטנה היא  $i$  ?

## תשובות סופיות:

- (1) א. 102,400,000    ב. 78,960,960    ג. 658008
- (2) א. 810,000    ב. 657,720    ג. 27,405
- (3) א. 14,040,000    ב. 1,404,000    ג. 5,616,000    ד. 8,424,000
- (4) א. 0.00024    ב. 0.00098    ג. 0.05933    ד. 0.75000
- (5) א. 0.00098    ב. 0.17798    ג. 0.02929    ד. 0.02197
- (6) א.  $\frac{1}{4096}$     ב.  $\frac{1}{32,768}$     ג. 0.205    ד. 0.795
- ה. 0.0105    ו. 0.5129    ז. 0.1071
- (7) א. 4,200    ב. 50,400    ג. 604,800
- (8) א. 604,800    ב. 2,880    ג. 2,880
- (9) 0.238
- (10) א. 0.1512    ב. 0.014    ג. 0.059    ד.  $\frac{62}{10^6}$
- (11) א. 40,320    ב. 0.1071    ג. 0.2142    ד. 0.0357  
ה. 0.5714    ו. 0.1429    ז. 0.0143    ח. 0.0095
- (12) א. 60,466,176    ב. 45,239,040    ג. 48,484,800
- (13) א.  $\frac{n!}{3!(n-3)}$     ב.  $n \cdot (n-1)(n-2)$     ג.  $n^3$
- (14)  $\frac{1}{4^n} \cdot \sum_{i=0}^n \binom{n}{i}^2$
- (15) א.  $0.9^a$     ב.  $1-0.9^a$     ג.  $0.5^a$
- (16) לפחות 25 פעמים.
- (17) א. 0.35721    ב. 0.1759
- (18) א. 0.75    ב. 0.075    ג. 0.375    ד. 0.15
- (19) א. 0    ב.  $\frac{450}{729}$     ג.  $\frac{90}{729}$
- (20)  $\frac{\binom{n}{k} (n-1)^{n-k}}{n^n}$
- (21) א. 720    ב. 360    ג. 432

$$(22) \quad \text{א. } \frac{j^k - (j-1)^k}{6^k} \quad \text{ב. } \frac{(7-i)^k - (6-i)^k}{6^k} \quad \text{ג. } \frac{(j-i+1)^k - 2 \cdot (j-i)^k + (j-i-1)^k}{6^k}$$