

מתמטיקה לפיזיקאים 1

פרק 29 - קווים ותחומים במישור, משטחים וגופים במרחב

תוכן העניינים

1. קווים ותחומים במישור 1
2. קווים ותחומים במישור בהצגה פרמטרית 5
3. קווים ותחומים במישור בהצגה קוטבית (פולרית) 11
4. משטחים במרחב 16
5. משטחים במרחב בהצגה פרמטרית (ללא ספר)
6. גופים במרחב 18
7. קואורדינטות גליליות וכדוריות 21
8. נספח – משטחים ממעלה שנייה 25

קווים ותחומים במישור

שאלות

1) שרטטו במישור את התחומים הבאים :

א. $S = \{(x, y) \mid -1 \leq x \leq 1, -1 \leq y \leq 4\}$

ב. $S = \{(x, y) \mid -1 \leq x^2 \leq 1, -1 \leq y \leq 4\}$

ג. $S = \{(x, y) \mid x \leq y \leq 4\}$

2) שרטטו במישור את התחומים הבאים :

א. $S = \{(x, y) \mid x-1 \leq y \leq 2x+1\}$

ב. $S = \{(x, y) \mid |y-2x| \leq 1\}$

ג. $S = \{(x, y) \mid |x|+y < 4\}$

ד. $S = \{(x, y) \mid (x+y)^2 \leq 4, x > 1\}$

3) מצאו את המרכז והרדיוס של המעגלים הבאים :

א. $x^2 + y^2 - 2x - 3 = 0$

ב. $x^2 + y^2 - 8y = -15$

ג. $x^2 + y^2 + 2x + 4y = 0$

4) בכל אחד מהסעיפים הבאים חלק ממעגל. שרטטו אותו.

א. $y = \sqrt{1-x^2}$

ב. $y = -\sqrt{1-x^2}$

ג. $x = \sqrt{1-y^2}$

ד. $x = -\sqrt{1-y^2}$

ה. $0 \leq x \leq 1 \quad y = \sqrt{1-x^2}$

ו. $-\frac{3}{5} \leq x \leq \frac{3}{5} \quad y = \sqrt{1-x^2}$

5) בכל אחד מהסעיפים הבאים חלק ממעגל. שרטטו אותו.

א. $y = 2 + \sqrt{1 - (x-3)^2}$

ב. $y = 2 - \sqrt{-x^2 + 6x - 8}$

ג. $x \geq 3.5, \quad x = 4 - \sqrt{1 - y^2}$

6) שרטטו את התחומים הבאים במישור:

א. $S = \{(x, y) \mid x^2 + y^2 \leq 4\}$

ב. $S = \{(x, y) \mid x^2 + y^2 < 4\}$

ג. $S = \{(x, y) \mid x^2 + y^2 \geq 4\}$

ד. $S = \{(x, y) \mid x^2 + y^2 > 4\}$

ה. $S = \{(x, y) \mid -\sqrt{4-x^2} \leq y \leq \sqrt{4-x^2}\}$

ו. $S = \{(x, y) \mid -\sqrt{4-y^2} \leq x \leq \sqrt{4-y^2}\}$

ז. $S = \{(x, y) \mid 0 \leq y \leq \sqrt{4-x^2}\}$

ח. $S = \{(x, y) \mid -\sqrt{4-y^2} \leq x \leq 0\}$

7) שרטטו את התחומים הבאים במישור:

א. $S = \{(x, y) \mid 1 \leq x^2 + y^2 \leq 4\}$

ב. $S = \{(x, y) \mid 1 \leq x^2 + y^2 \leq 4, x \geq 0, y \geq 0\}$

ג. $S = \{(x, y) \mid 1 \leq x^2 + y^2 \leq 4, x \geq 0\}$

ד. $S = \{(x, y) \mid 1 \leq x^2 + y^2 \leq 4, y \geq 0\}$

8) שרטטו את התחומים הבאים במישור:

א. $S = \{(x, y) \mid x^2 + y^2 - 2x + 4y + 1 \leq 0\}$

ב. $S = \{(x, y) \mid 0 \leq y + 1 \leq \sqrt{1 - x^2}\}$

9 שרטטו את התחומים הבאים במישור :

א. $S = \{(x, y) \mid 1 \leq x^2 + y^2 \leq 4, x \leq y \leq 2x\}$

ב. $S = \{(x, y) \mid x^2 + y^2 \leq 4, y \geq x\}$

ג. $S = \{(x, y) \mid \frac{1}{7}x + \frac{25}{7} \leq y \leq \sqrt{25 - x^2}\}$

ד. $S = \{(x, y) \mid x^2 + y^2 \leq 4, y \geq x^2\}$

ה. $S = \{(x, y) \mid x^2 \leq y \leq \sqrt{4 - x^2}\}$

ו. $S = \{(x, y) \mid |x - 1| \leq y \leq \sqrt{1 - (x - 1)^2}\}$

10 נתונה המשוואה $25x^2 + 4y^2 - 50x + 16y = 59$.

- א. הוכיחו שהמשוואה מתארת אליפסה ושרטטו אותה.
 ב. רשמו את הפונקציות שמתארות את החצי העליון ואת החצי התחתון של האליפסה.
 ג. רשמו את הפונקציות שמתארות את החצי הימני ואת החצי השמאלי של האליפסה.
 ד. מהי קבוצת כל הנקודות במישור, החסומה בתוך האליפסה או עליה?
 ה. מהי קבוצת כל הנקודות במישור, החסומה בתוך האליפסה ומעל לציר המשני שלה?

11 שרטטו את התחומים הבאים במישור :

א. $S = \{(x, y) \mid 4x^2 + y^2 + 8x - 4y + 4 \geq 0\}$

ב. $S = \{(x, y) \mid 0 \leq y \leq \frac{2}{3}\sqrt{9 - x^2}\}$

ג. $S = \{(x, y) \mid \frac{1}{2}y + 1 \leq x \leq \frac{3}{2}\sqrt{4 - y^2}\}$

ד. $S = \{(x, y) \mid -\frac{2}{3}\sqrt{9 - x^2} \leq y \leq -x^2\}$

12) שרטטו את התחומים הבאים במישור:

א. $S = \{(x, y) \mid x^2 \leq y \leq 2 - x^2\}$

ב. $S = \{(x, y) \mid -2 \leq y \leq -x^2\}$

ג. $S = \{(x, y) \mid y^2 - 2 \leq x \leq -y^2\}$

ד. $S = \{(x, y) \mid y^2 \leq x \leq 1 - y\}$

13) שרטטו את התחומים הבאים במישור:

א. $\left\{ (x, y) \mid \frac{x^2}{4} - \frac{y^2}{9} \leq 1 \right\}$

ב. $\left\{ (x, y) \mid \frac{x^2}{4} - \frac{y^2}{9} \geq 1, x^2 + y^2 \leq 16 \right\}$

ג. $\left\{ (x, y) \mid \frac{x^2}{4} - \frac{y^2}{9} \geq 1, y \geq \frac{1}{4}x^2 \right\}$

ד. $\left\{ (x, y) \mid \frac{x^2}{4} - \frac{y^2}{9} \leq 1, x^2 + y^2 \geq 4 \right\}$

תשובות סופיות

לפתרונות מלאים ושרטוטים היכנסו לאתר GooL.co.il

קווים ותחומים במישור בהצגה פרמטרית

שאלות

1) עברו מן ההצגה הפרמטרית הנתונה, להצגה קרטזית:

א. $x = t^2 + 1, y = t^2$, $t \geq 0$

ב. $x = \sin t, y = \cos^2 t$, $0 \leq t \leq \pi$

ג. $x = \cos t, y = 4 \sin t$, $\pi \leq t \leq 2\pi$

2) להלן תיאור פרמטרי של מסלולים במישור.

על ידי חילוץ של הפרמטר t , מצאו משוואה מתאימה שמבטאת כל מסלול באמצעות המשתנים x ו- y בלבד:

א. $x = t - 4, y = t^2$

ב. $x = -4 + \cos t, y = 1 + 2 \sin t$

ג. $x = 4 \cos^3 t, y = 4 \sin^3 t$

ד. $x = t(t+1) + 1, y = t(0.5t+1) + 1$

ה. $x = \frac{20t}{4+t^2}, y = \frac{20-5t^2}{4+t^2}$

ו. $x = ke^t + ke^{-t}, y = ke^t - ke^{-t}$ (קבוע k).

3) נתון המעגל $x^2 + y^2 = 8$.

א. שרטטו את המעגל ומצאו את משוואתו הפרמטרית.

ב. מצאו הצגה פרמטרית של חלק המעגל מהנקודה $A(2,2)$ לנקודה $B(-2,-2)$.

ג. מצאו הצגה פרמטרית של התחום D , המוגבל מעל הישר AB ומתחת למעגל.

ד. מצאו הצגה פרמטרית של התחום E , המוגבל בין המעגל הנתון למעגל $x^2 + y^2 = 16$.

$$(4) \quad \text{נתונים שני מעגלים } (x-8)^2 + (y-4)^2 = 25 \text{ ו- } x^2 + y^2 = 25.$$

- א. שרטטו את המעגלים, מצאו את משוואותיהם הפרמטריות ומצאו הצגה פרמטרית לתחום הכלוא בכל אחד מהמעגלים.
- ב. המעגלים נחתכים בשתי נקודות, A ו-B, ותהי הנקודה A בעלת ערך ה- y הגדול יותר.
- מצאו את ההצגה הפרמטרית של חלק המעגל בין A לבין B. הפרידו לשני מקרים.
- ג. מצאו הצגה אלגברית לתחום החסום בין שני המעגלים.

$$(5) \quad \text{נתונות משוואות של שתי אליפסות: } \begin{cases} \frac{x^2}{4} + \frac{y^2}{2} = 1 \\ \frac{x^2}{2} + \frac{y^2}{4} = 1 \end{cases}$$

- א. שרטטו את האליפסות ומצאו את הצגתן הפרמטרית.
- ב. האליפסות נחתכות ב-4 נקודות, מצאו אותן.
- ג. הקו המחבר את 4 הנקודות לעיל מורכב מ-4 מסילות.
- מצאו את ההצגה הפרמטרית של כל אחת מהמסילות.
- ד. מצאו הצגה פרמטרית של התחום, המוגבל בתוך שתי האליפסות.

$$(6) \quad \text{נתונה היפרבולה } 4x^2 - y^2 = 4.$$

- א. ההיפרבולה מורכבת משתי מסילות.
- מצאו את ההצגה האלגברית ואת ההצגה הפרמטרית של כל אחת מהמסילות.
- ב. הציגו באופן פרמטרי את התחום המוגבל בין ההיפרבולה לבין האסימפטוטות שלה.

$$(7) \quad \text{נתונה המשוואה } 3x^2 - y^2 = 3.$$

- א. איזה קו במישור מתארת המשוואה? שרטטו.
- ב. הקו מסעיף א' מורכב משתי מסילות.
- מצאו את ההצגה האלגברית ואת ההצגה הפרמטרית של כל אחת מהמסילות.
- ג. המסילה C היא חלק של הקו הנתון מהנקודה $A(-2, -3)$ לנקודה $B(-1, 0)$.
- כתבו את C בצורה פרמטרית.
- ד. מצאו את המרחק הקצר ביותר בין ציר ה- y למסילה C.

$$(8) \quad \begin{cases} x = t - \sin t \\ y = 1 - \cos t \end{cases} \quad \text{חשבו את אורך העקום} \quad .0 \leq t \leq 2\pi$$

$$(9) \quad \begin{cases} x = 4 \sin t \\ y = 10t \\ z = 4 \cos t \end{cases} \quad \text{חשבו את אורך העקום} \quad .-\pi \leq t \leq 2\pi$$

תשובות סופיות

$$(1) \quad \text{א. } y = x - 1, x \geq 1 \quad \text{ב. } y = 1 - x^2, -1 \leq x \leq 1$$

$$\text{ג. } x^2 + \frac{y^2}{16} = 1, -1 \leq x \leq 1, y \leq 0$$

$$(2) \quad \text{א. } y = (x+4)^2 \quad \text{ב. } (x+4)^2 + \left(\frac{y-1}{2}\right)^2 = 1 \quad \text{ג. } x^{\frac{2}{3}} + y^{\frac{2}{3}} = 4^{\frac{2}{3}}$$

$$\text{ד. } x^2 - 4xy + 4y^2 = 2y - 1 \quad \text{ה. } x^2 + y^2 = 25 \quad \text{ו. } x^2 - y^2 = 4k^2$$

$$(3) \quad \begin{cases} x(t) = \sqrt{8} \cos t \\ y(t) = \sqrt{8} \sin t \end{cases} \quad \begin{matrix} \text{א. } 0 \leq t \leq 2\pi \\ \text{ב. } \frac{\pi}{4} \leq t \leq \frac{5\pi}{4} \end{matrix}$$

$$\text{ג. } \begin{cases} x(u, v) = \sqrt{8}u \cos v \\ y(u, v) = \sqrt{8}u \sin v \end{cases} \quad 0 \leq u \leq 1, \frac{\pi}{4} \leq v \leq \frac{5\pi}{4}$$

$$\text{ד. } \begin{cases} x(u, v) = u \cos v \\ y(u, v) = u \sin v \end{cases} \quad \sqrt{8} \leq u \leq 4, 0 \leq v \leq 2\pi$$

$$(4) \quad \text{א. המעגל } x^2 + y^2 = 25 \text{ : מרכז } (0, 0) \text{ . רדיוס : } 5.$$

$$\begin{cases} x(t) = 5 \cos t \\ y(t) = 5 \sin t \end{cases} \quad 0 \leq t \leq 2\pi \quad \text{הצגה פרמטרית של המעגל}$$

$$\begin{cases} x(u, v) = 5u \cos v \\ y(u, v) = 5u \sin v \end{cases} \quad 0 \leq u \leq 1, 0 \leq v \leq 2\pi \quad \text{הצגה פרמטרית של העיגול}$$

$$\text{המעגל } (x-8)^2 + (y-4)^2 = 25 \text{ : מרכז } (8, 4) \text{ . רדיוס : } 5.$$

$$\begin{cases} x(t) = 8 + 5 \cos t \\ y(t) = 4 + 5 \sin t \end{cases} \quad 0 \leq t \leq 2\pi \quad \text{הצגה פרמטרית של המעגל}$$

$$\begin{cases} x(u, v) = 8 + 5u \cos v \\ y(u, v) = 4 + 5u \sin v \end{cases} \quad 0 \leq u \leq 1, 0 \leq v \leq 2\pi \quad \text{הצגה פרמטרית של העיגול}$$

$$\text{ב. מקרה 1 : } \begin{cases} x(t) = 5 \cos t \\ y(t) = 5 \sin t \end{cases}, \quad 0 \leq t \leq \arctan\left(\frac{4}{3}\right)$$

$$\text{מקרה 2 - } \begin{cases} x = 8 + 5 \cos t \\ y = 4 + 5 \sin t \end{cases}, \quad \pi \leq t \leq \arctan\left(\frac{4}{3}\right) + \pi$$

$$\text{ג. } \{(x, y) \mid -\sqrt{25 - (y-4)^2} + 8 \leq x \leq \sqrt{25 - (y-4)^2}\}$$

$$(5) \quad \begin{cases} x(t) = 2 \cos t, y(t) = \sqrt{2} \sin t & 0 \leq t \leq 2\pi \\ x(t) = \sqrt{2} \cos t, y(t) = 2 \sin t & 0 \leq t \leq 2\pi \end{cases} \quad \text{א.}$$

$$\text{ב. } A\left(\frac{2}{\sqrt{3}}, \frac{2}{\sqrt{3}}\right), B\left(-\frac{2}{\sqrt{3}}, \frac{2}{\sqrt{3}}\right), C\left(-\frac{2}{\sqrt{3}}, -\frac{2}{\sqrt{3}}\right), D\left(\frac{2}{\sqrt{3}}, -\frac{2}{\sqrt{3}}\right)$$

$$\cdot \begin{cases} x(t) = \sqrt{2} \cos t \\ y(t) = 2 \sin t \end{cases} \quad \arctan\left(-\frac{1}{\sqrt{2}}\right) \leq t \leq \arctan\left(\frac{1}{\sqrt{2}}\right) \quad : DA \text{ המסילה}$$

$$\cdot \begin{cases} x(t) = \sqrt{2} \cos t \\ y(t) = 2 \sin t \end{cases} \quad \arctan\left(-\frac{1}{\sqrt{2}}\right) + \pi \leq t \leq \arctan\left(\frac{1}{\sqrt{2}}\right) + \pi \quad : BC \text{ המסילה}$$

$$\cdot \begin{cases} x(t) = 2 \cos t \\ y(t) = \sqrt{2} \sin t \end{cases} \quad \arctan(\sqrt{2}) \leq t \leq \arctan(-\sqrt{2}) + \pi \quad : AB \text{ המסילה}$$

$$\cdot \begin{cases} x(t) = 2 \cos t \\ y(t) = \sqrt{2} \sin t \end{cases} \quad \arctan(\sqrt{2}) + \pi \leq t \leq \arctan(-\sqrt{2}) + 2\pi \quad : CD \text{ המסילה}$$

$$D = D_1 \cup D_2 \cup D_3 \cup D_4$$

$$D_1: \begin{cases} x(u, v) = \sqrt{2} \mathbf{u} \cos v \\ y(u, v) = 2 \mathbf{u} \sin v \end{cases}$$

$$0 \leq \mathbf{u} \leq 1, \arctan\left(-\frac{1}{\sqrt{2}}\right) \leq v \leq \arctan\left(\frac{1}{\sqrt{2}}\right)$$

$$D_3: \begin{cases} x(u, v) = \sqrt{2} \mathbf{u} \cos v \\ y(u, v) = 2 \mathbf{u} \sin v \end{cases}$$

$$0 \leq \mathbf{u} \leq 1, \arctan\left(-\frac{1}{\sqrt{2}}\right) + \pi \leq v \leq \arctan\left(\frac{1}{\sqrt{2}}\right) + \pi$$

$$D_2: \begin{cases} x(u, v) = 2 \mathbf{u} \cos v \\ y(u, v) = \sqrt{2} \mathbf{u} \sin v \end{cases}$$

$$0 \leq \mathbf{u} \leq 1, \arctan(\sqrt{2}) \leq v \leq \arctan(-\sqrt{2}) + \pi$$

$$D_4: \begin{cases} x(u, v) = 2 \mathbf{u} \cos v \\ y(u, v) = \sqrt{2} \mathbf{u} \sin v \end{cases} \quad \cdot \uparrow$$

$$0 \leq \mathbf{u} \leq 1, \arctan(\sqrt{2}) + \pi \leq v \leq \arctan(-\sqrt{2}) + 2\pi$$

$$(6) \quad \text{א. אלגברית: ימנית } x = \sqrt{1 + \frac{y^2}{4}}, \text{ שמאלית } x = -\sqrt{1 + \frac{y^2}{4}}$$

$$\cdot \begin{cases} x = -\cosh t \\ y = 2 \sinh t \end{cases} \quad t \in \mathbb{R} \text{ : שמאלית}, \begin{cases} x = \cosh t \\ y = 2 \sinh t \end{cases} \quad t \in \mathbb{R} \text{ : ימנית}$$

$$D = D_1 \cup D_2$$

$$D_1 : \begin{cases} x(u, v) = u \cosh v \\ y(u, v) = 2u \sinh v \end{cases} \quad 0 \leq u \leq 1, v \in \mathbb{R} \quad \text{ב.}$$

$$D_2 : \begin{cases} x(u, v) = -u \cosh v \\ y(u, v) = 2u \sinh v \end{cases} \quad 0 \leq u \leq 1, v \in \mathbb{R}$$

$$(7) \quad \text{א. היפרבולה. ב. אלגברית: ימנית } x = \sqrt{1 + \frac{y^2}{3}}, \text{ שמאלית } x = -\sqrt{1 + \frac{y^2}{3}}$$

$$\cdot \begin{cases} x = -\cosh t \\ y = \sqrt{3} \sinh t \end{cases} \quad t \in \mathbb{R} \text{ וענף שמאלי}, \begin{cases} x = \cosh t \\ y = \sqrt{3} \sinh t \end{cases} \quad t \in \mathbb{R} \text{ ענף ימני}$$

$$1. \tau \quad C : \begin{cases} x = -\cosh t \\ y = \sqrt{3} \sinh t \end{cases} \quad \ln(2 - \sqrt{3}) \leq t \leq 0 \quad \text{ג.}$$

8 (8)

6π√29 (9)

קווים ותחומים במישור בהצגה קוטבית (פולרית)

שאלות

(1) ענו על הסעיפים הבאים:

א. המירו את הנקודה הקוטבית $\left(4, \frac{\pi}{3}\right)$ לנקודה קרטזית.

ב. המירו את הנקודה הקרטזית $(-1, -1)$ לנקודה קוטבית.

(2) ענו על הסעיפים הבאים:

א. המירו את הנקודה הקוטבית $\left(10, -\frac{\pi}{3}\right)$ לנקודה קרטזית.

ב. המירו את הנקודה הקרטזית $(0, -4)$ לנקודה קוטבית.

ג. המירו את הנקודה הקרטזית $(-2, 2)$ לנקודה קוטבית.

(3) ענו על הסעיפים הבאים:

א. המירו את המשוואה $4x - x^2 = 1 + xy$ לקואורדינטות קוטביות.

ב. המירו את המשוואה $r = -4\cos\theta$ לקואורדינטות קרטזיות.

(4) ענו על הסעיפים הבאים:

א. המירו את המשוואה $x^2 + y^2 = 4y$ לקואורדינטות פולריות.

ב. המירו את המשוואה $x = 10$ לקואורדינטות פולריות.

ג. המירו את המשוואה $y = 4$ לקואורדינטות פולריות.

(5) ענו על הסעיפים הבאים:

א. המירו את המשוואה $r = 4$ לקואורדינטות קרטזיות.

ב. המירו את המשוואה $\theta = \pi/4$ לקואורדינטות קרטזיות.

ג. המירו את המשוואה $r = 2\cos\theta + 4\sin\theta$ לקואורדינטות קרטזיות.

ד. המירו את המשוואה $6r^3 \sin\theta = 4 - \cos\theta$ לקואורדינטות קרטזיות.

6) להלן שני איורים, שבכל אחד מהם קו. כתבו כל אחד מהקווים בהצגה פולרית.

איור ב



איור א



7) בכל אחד מהסעיפים הבאים חלק ממעגל. כתבו אותו בהצגה פולרית.

א. $y = \sqrt{1-x^2}$

ב. $y = -\sqrt{1-x^2}$

ג. $x = \sqrt{1-y^2}$

ד. $x = -\sqrt{1-y^2}$

ה. $y = \sqrt{1-x^2}, 0 \leq x \leq 1$

ו. $y = \sqrt{1-x^2}, -\frac{3}{5} \leq x \leq \frac{3}{5}$

8) בסעיפים א-ג הוכיחו שכל אחד מהקווים מתאר חלק ממעגל. שרטטו את הקו והציגו אותו בצורה פולרית (קוטבית).

א. $y = \sqrt{4-(x-2)^2}$

ב. $x = -\sqrt{6y-y^2}$

ג. $y = -1 + \sqrt{1-x^2}$

ד. סגרו את הקו מסעיף ג' על ידי ישר מתאים. מהי הצגתו הפולרית של ישר זה?

9) שרטטו את התחומים הבאים במישור והציגו אותם בהצגה פולרית:

א. $S = \{(x, y) \mid x^2 + y^2 \leq 4\}$

ב. $S = \{(x, y) \mid 0 \leq y \leq \sqrt{4-x^2}\}$

ג. $S = \{(x, y) \mid -\sqrt{4-y^2} \leq x \leq 0\}$

10) שרטטו את התחומים הבאים במישור והציגו אותם בהצגה פולרית:

א. $S = \{(x, y) \mid 1 \leq x^2 + y^2 \leq 4\}$

ב. $S = \{(x, y) \mid 1 \leq x^2 + y^2 \leq 4, x \geq 0, y \geq 0\}$

ג. $S = \{(x, y) \mid 1 \leq x^2 + y^2 \leq 4, x \geq 0\}$

ד. $S = \{(x, y) \mid 1 \leq x^2 + y^2 \leq 4, y \geq 0\}$

11) שרטטו את התחומים הבאים במישור והציגו אותם בהצגה פולרית:

א. $S = \{(x, y) \mid 1 \leq x^2 + y^2 \leq 4, x \leq y \leq 2x\}$

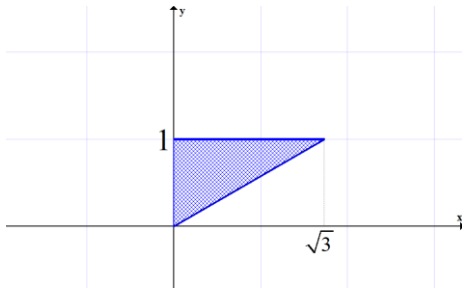
ב. $S = \{(x, y) \mid x^2 + y^2 \leq 4, y \geq x\}$

12) הציגו את התחום הבא בצורה פולרית: $S = \{(x, y) \mid \frac{1}{7}x + \frac{25}{7} \leq y \leq \sqrt{25 - x^2}\}$

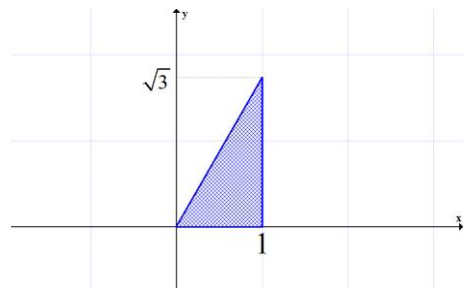
13) הציגו את התחום הבא בצורה פולרית: $S = \{(x, y) \mid \frac{1}{\sqrt{3}}x \leq y \leq \sqrt{8x - x^2}\}$

14) להלן שני איורים, ובכל איור תחום. כתבו כל אחד מהתחומים בהצגה פולרית ותארו במילים כל אחד מהתחומים.

איור ב



איור א



תשובות סופיות

$$(r, \theta) = \left(\sqrt{2}, \frac{5\pi}{4} \right) \text{ ב. } (x, y) = (2, 2\sqrt{3}) \text{ א. (1)}$$

$$(r, \theta) = \left(\sqrt{8}, \frac{3\pi}{4} \right) \text{ ג. } (r, \theta) = \left(4, \frac{3\pi}{2} \right) \text{ ב. } (x, y) = (5, -5\sqrt{3}) \text{ א. (2)}$$

$$(x+2)^2 + y^2 = 2^2 \text{ ב. } 4r \cos \theta - r^2 \cos^2 \theta = 1 + r \cos \theta \cdot r \sin \theta \text{ א. (3)}$$

$$r \sin \theta = 4 \text{ ג. } r \cos \theta = 10 \text{ ב. } r = 4 \sin \theta \text{ א. (4)}$$

$$(x-1)^2 + (y-2)^2 = 5 \text{ ג. } y = x \text{ ב. } x^2 + y^2 = 4^2 \text{ א. (5)}$$

$$6 \left(\sqrt{x^2 + y^2} \right)^3 \cdot y = 4 \sqrt{x^2 + y^2} - x \text{ ד.}$$

$$r = \frac{1}{\sin \theta} \quad \frac{\pi}{6} \leq \theta \leq \frac{\pi}{2} \text{ ב. } r = \frac{1}{\cos \theta} \quad 0 \leq \theta \leq \frac{\pi}{3} \text{ א. (6)}$$

$$\begin{cases} r=1 \\ -\frac{\pi}{2} \leq \theta \leq \frac{\pi}{2} \end{cases} \text{ ג. } \begin{cases} r=1 \\ \pi \leq \theta \leq 2\pi \end{cases} \text{ ב. } \begin{cases} r=1 \\ 0 \leq \theta \leq \pi \end{cases} \text{ א. (7)}$$

$$\begin{cases} r=1 \\ \arctan \frac{4}{3} \leq \theta \leq \arctan \left(-\frac{4}{3} \right) + \pi \end{cases} \text{ ו. } \begin{cases} r=1 \\ 0 \leq \theta \leq \frac{\pi}{2} \end{cases} \text{ ה. } \begin{cases} r=1 \\ \frac{\pi}{2} \leq \theta \leq \frac{3\pi}{2} \end{cases} \text{ ד.}$$

$$r = 6 \sin \theta, 0.5\pi \leq \theta \leq \pi \text{ ב. } r = 4 \cos \theta, 0 \leq \theta \leq 0.5\pi \text{ א. (8)}$$

$$r = -\frac{1}{\sin \theta}, 1.25\pi \leq \theta \leq 1.75\pi \text{ ד. } \begin{cases} r = -2 \sin \theta \\ \pi \leq \theta \leq 1.25\pi \text{ or } 1.75\pi \leq \theta \leq 2\pi \end{cases} \text{ ג.}$$

$$\begin{cases} 0 \leq r \leq 2 \\ 0.5\pi \leq \theta \leq 1.5\pi \end{cases} \text{ ג. } \begin{cases} 0 \leq r \leq 2 \\ 0 \leq \theta \leq \pi \end{cases} \text{ ב. } \begin{cases} 0 \leq r \leq 2 \\ 0 \leq \theta \leq 2\pi \end{cases} \text{ א. (9)}$$

$$\begin{cases} 1 \leq r \leq 2 \\ -0.5\pi \leq \theta \leq 0.5\pi \end{cases} \text{ ג. } \begin{cases} 1 \leq r \leq 2 \\ 0 \leq \theta \leq 0.5\pi \end{cases} \text{ ב. } \begin{cases} 1 \leq r \leq 2 \\ 0 \leq \theta \leq 2\pi \end{cases} \text{ א. (10)}$$

$$\begin{cases} 1 \leq r \leq 2 \\ 1.5\pi \leq \theta \leq 2.5\pi \end{cases}$$

$$\begin{cases} 1 \leq r \leq 2 \\ 0 \leq \theta \leq \pi \end{cases} \text{ ד.}$$

$$0 \leq r \leq 2, 0.25\pi \leq \theta \leq 1.25\pi \text{ ב. } 1 \leq r \leq 2 \text{ א. (11)}$$

$$0.25\pi \leq \theta \leq \arctan 2$$

$$\frac{25}{7 \sin \theta - \cos \theta} \leq r \leq 5 \text{ (12)}$$

$$\arctan \frac{4}{3} \leq \theta \leq \arctan \left(-\frac{3}{4} \right) + \pi$$

$$0 \leq r \leq 8 \cos \theta, \quad \frac{\pi}{6} \leq \theta \leq \frac{\pi}{2} \quad (13)$$

$$0 \leq r \leq \frac{1}{\sin \theta} \quad \frac{\pi}{6} \leq \theta \leq \frac{\pi}{2} \quad \text{ב.} \quad 0 \leq r \leq \frac{1}{\cos \theta} \quad 0 \leq \theta \leq \frac{\pi}{3} \quad \text{א.} \quad (14)$$

משטחים במרחב

שאלות

זהו ושרטטו את המשטחים בשאלות 1-3 :

$$\frac{x^2}{4} + \frac{y^2}{9} + \frac{z^2}{25} = 1 \quad (1)$$

$$z = 5x^2 + 1.25y^2 \quad (2)$$

$$20x^2 + 45y^2 = 180 + 36z^2 \quad (3)$$

זהו ושרטטו את המשטחים הבאים :

$$z = 4x^2 + y^2 + 1 \quad \text{א.}$$

$$z = 3 - x^2 - y^2 \quad \text{ב.}$$

זהו כל אחד מהמשטחים הבאים :

$$25x^2 + 100y^2 + 4z^2 = 100 \quad \text{א.}$$

$$25x^2 + 4y^2 - 50x - 16y - 100z + 41 = 0 \quad \text{ב.}$$

$$x^2 + 4y^2 - 4z^2 + 80z - 404 = 0 \quad \text{ג.}$$

מצאו את החיתוך בין המשטח $x^2 + y^2 + z^2 = 169$ לבין המשטח $z = 12$.
הסבירו את התוצאה מבחינה גרפית.

נתון המשטח $2x^2 + 2y^2 + 2z^2 - 16x - 4y + 40z + 206 = 0$:

א. זהו את המשטח.

ב. מצאו את נקודות החיתוך של המשטח עם הישר $\frac{x-5}{2} = \frac{y+1}{1} = \frac{z+14}{2}$.

מצאו את החיתוך בין המשטחים $x^2 + y^2 + (z-10)^2 = 24$ ו- $x^2 + y^2 + z^2 = 64$.
הסבירו את התוצאה מבחינה גרפית.

נתון המשטח $36z^2 + 4x^2 - 9y^2 = 36$:

א. זהו את המשטח ושרטט אותו.

ב. רשמו הצגה פרמטרית של שני ישרים שאינם נמצאים באותו מישור, ושנמצאים כולם על המשטח.

- 10 נתונים שני משטחים: $R: x^2 - y^2 + 2z^2 = 3$, $Q: 2x^2 - y^2 + z^2 = 3$.
- זהו את המשטחים ושרטטו אותם.
 - הראו כי החיתוך בין R ו- Q הוא שתי מסילות, כל אחת נמצאת במישור, וכתבו את משוואת המישורים הללו.
 - המסילה C היא חלק של החיתוך בין R ל- Q . נתון כי $A(-2, -3, 2)$ היא נקודת התחלה של C ו- $B(-1, 0, 1)$ היא נקודת סיום של C . כתבו את C בצורה פרמטרית.
 - מצאו את המרחק הקצר ביותר בין ציר ה- y למסילה C .

• בסוף קובץ זה תמצאו סיכום של כל המשטחים הנפוצים.

תשובות סופיות

- אליפסואיד.
- פרבולואיד אליפטי הנפתח כלפי מעלה.
- היפרבולואיד חד יריעתי.
- א. פרבולואיד אליפטי שמרכזו בנקודה $(0, 0, 1)$ ונפתח כלפי מעלה.
ב. פרבולואיד אליפטי שמרכזו בנקודה $(0, 0, 3)$ ונפתח כלפי מטה.
- א. אליפסואיד.
ב. פרבולואיד אליפטי שמרכזו בנקודה $(1, 2, 0)$ ונפתח כלפי מעלה.
ג. היפרבולואיד חד-יריעתי שמרכזו בנקודה $(0, 0, 10)$.
- החיתוך הוא מעגל $x^2 + y^2 = 25$, שמרכזו בנקודה $(0, 0, 12)$.
- א. ספירה שמרכזה $(4, 1, -10)$ ורדיוסה $\sqrt{14}$.
- נקודות החיתוך הן $A(7, 0, -12)$, $B\left(\frac{59}{9}, -\frac{2}{9}, -\frac{112}{9}\right)$.
- החיתוך הוא המעגל $x^2 + y^2 = 15$, שמרכזו בנקודה $(0, 0, 7)$.
- א. היפרבולואיד חד-יריעתי שמרכזו על ציר ה- y .
ב. $\ell_1: (x, y, z) = (3t, 2t, 1)$ $\ell_2: (x, y, z) = (3, 2t, t)$
- א. שני המשטחים הם היפרבולואיד חד-יריעתי. ב. $z = -x, z = x$.
ג. $\ln(2 - \sqrt{3}) \leq t \leq 0$ $C: x = -\cosh t, y = \sqrt{3} \sinh t, z = \cosh t$. ד. $\sqrt{2}$

גופים במרחב

שאלות

1 שרטטו את התחומים הבאים במרחב ותארו במילים את הגוף שהתקבל.

א. $V = \{(x, y, z) \mid x^2 + y^2 + z^2 \leq 4\}$

ב. $V = \{(x, y, z) \mid -\sqrt{4-x^2-y^2} \leq z \leq \sqrt{4-x^2-y^2}\}$

ג. $V = \{(x, y, z) \mid x^2 + y^2 + z^2 \leq 4, z \geq 0\}$

ד. $V = \{(x, y, z) \mid 0 \leq z \leq \sqrt{4-x^2-y^2}\}$

ה. $V = \{(x, y, z) \mid x^2 + y^2 + z^2 \leq 4, z \leq 0\}$

ו. $V = \{(x, y, z) \mid -\sqrt{4-x^2-y^2} \leq z \leq 0\}$

ז. $V = \{(x, y, z) \mid 0 \leq x \leq 2, 0 \leq y \leq 4, 0 \leq z \leq 3\}$

2 שרטטו את התחומים הבאים במרחב ותארו במילים את הגוף שהתקבל.

א. $V = \{(x, y, z) \mid x^2 + y^2 + z^2 \leq 1, x \geq 0, y \geq 0, z \geq 0\}$

ב. $V = \{(x, y, z) \mid 0 \leq z \leq \sqrt{1-x^2-y^2}, x \geq 0, y \geq 0\}$

ג. $D = \{(x, y, z) \mid 1 \leq x^2 + y^2 + z^2 \leq 4, x \geq 0, y \geq 0, z \geq 0\}$

ד. $D = \{(x, y, z) \mid 1 \leq x^2 + y^2 + z^2 \leq 4, x \geq 0, z \geq 0, 0 \leq y \leq x\}$

ה. $V = \{(x, y, z) \mid 1 \leq z \leq 1 + \sqrt{1-x^2-y^2}\}$

ו. $V = \{(x, y, z) \mid \sqrt{x^2+y^2} \leq z \leq \frac{1}{2} + \sqrt{\frac{1}{4}-x^2-y^2}\}$

3 שרטטו את התחומים הבאים במרחב ותארו במילים את הגוף שהתקבל.

א. $V = \{(x, y, z) \mid x^2 + y^2 + z^2 \leq 4, z \geq \sqrt{3(x^2+y^2)}\}$

ב. $V = \{(x, y, z) \mid \sqrt{3(x^2+y^2)} \leq z \leq \sqrt{4-x^2-y^2}\}$

ג. $V = \{(x, y, z) \mid 0 \leq z \leq \sqrt{4-x^2-y^2}, x^2+y^2 \leq 1\}$

ד. $V = \{(x, y, z) \mid 0 \leq y \leq 3, x \geq 0, z \geq 0, x^2+z^2 \leq 4\}$

ה. $V = \{(x, y, z) \mid x \geq 0, y \geq 0, z \geq 0, x^2+y^2+z^2 \leq 36, \frac{x^2}{9} + \frac{y^2}{16} \leq 1\}$

4) שרטטו את התחומים הבאים במרחב ותארו במילים את הגוף שהתקבל.

א. $V = \{(x, y, z) \mid \sqrt{x^2 + y^2} \leq z \leq 2 - x^2 - y^2\}$

ב. $V = \{(x, y, z) \mid x^2 + y^2 \leq z \leq \sqrt{4 - x^2 - y^2}\}$

ג. $V = \{(x, y, z) \mid x^2 + y^2 \leq z \leq 1 - x^2 - y^2\}$

ד. $V = \{(x, y, z) \mid 0 \leq z \leq 4 - x^2 - y^2, x^2 + y^2 - 2x \leq 0\}$

5) שרטטו את התחומים הבאים במרחב ותארו במילים את הגוף שהתקבל.

א. $\{(x, y, z) \mid x^2 + y^2 + z^2 \leq 4, x^2 + y^2 \leq 1\}$

ב. $\{(x, y, z) \mid x^2 + y^2 + z \leq 4, x \geq 0, y \geq 0, z \geq 0, x^2 + y^2 \leq 1\}$

ג. $V = \{(x, y, z) \mid 0 \leq z \leq 4 - x^2 - y^2, x \geq 0, y \geq 0, x^2 + y^2 \leq 1\}$

ד. $V = \{(x, y, z) \mid \sqrt{x^2 + y^2} \leq z \leq \sqrt{4 - x^2 - y^2}, x^2 + y^2 \leq 1\}$

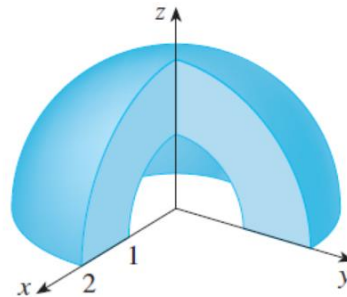
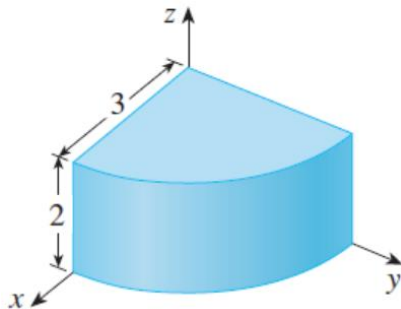
ה. $U = \{(x, y, z) \mid 0 \leq z \leq 10 - y, 1 \leq x^2 + y^2 \leq 4\}$

6) בכל אחד מהסעיפים הבאים איור של גוף V במרחב.

תארו במילים את הגוף וכתבו אותו לפי התבנית $V = \{(x, y, z) \mid \dots\}$.

א.

ב.



7) נתונים המשטחים $z = x^2 + y^2$ ו- $z = 2 - \sqrt{x^2 + y^2}$.

א. זהו כל אחד מהמשטחים בשם.

ב. שרטטו את התחום החסום בין המשטחים.

ג. מצאו את משוואת עקום החיתוך בין המשטחים.

(8) נתונים שני משטחים: $z = x^2 + y^2 + z^2$ ו- $z = \sqrt{x^2 + y^2}$.

א. זהו כל אחד מהמשטחים בשם.

ב. שרטטו את התחום החסום בין המשטחים וכתוב אותו בתבנית

$$V = \{(x, y, z) \mid ? \leq z \leq ??\}$$

ג. מצאו את משוואת עקום החיתוך בין המשטחים.

(9) תחומים תלת-ממדיים M ו- N נתונים על ידי

$$M : x^2 - y^2 + 2z^2 \leq 3$$

$$N : 2x^2 - y^2 + z^2 \leq 3$$

תחום תלת-ממדי W הוא החיתוך בין M ל- N .

שרטטו את D , החיתוך של W עם המישור $y=1$ (במערכת צירים (xz)),

וכתבו את D בהצגה פרמטרית.

לפתרונות מלאים ראו את הסרטונים באתר GooL.co.il

קואורדינטות גליליות וכדוריות

שאלות

- (1) בכל אחד מהסעיפים הבאים נתונה משוואה של משטח במערכת קרטזית. מצאו את המשוואה של המשטח במערכת גלילית ובמערכת כדורית. מהו שמו של המשטח? שרטטו את המשטח.
- א. $z = 3$
 ב. $z = 4x^2 + 4y^2$
 ג. $x^2 + y^2 = 4$
- (2) בכל אחד מהסעיפים הבאים נתונה משוואה של משטח במערכת קרטזית. מצאו את המשוואה של המשטח במערכת גלילית ובמערכת כדורית. מהו שמו של המשטח? שרטטו את המשטח.
- א. $x^2 + y^2 + z^2 = 9$
 ב. $2x + 3y + 4z = 1$
 ג. $x^2 = 16 - z^2$
 ד. $z = \sqrt{x^2 + y^2}$
- (3) בכל אחד מהסעיפים הבאים נתונה משוואה של משטח במערכת גלילית. הציגו את המשוואה במערכת קרטזית. מהו שם המשטח? ציירו את המשטח.
- א. $r = 3$
 ב. $z = r^2$
 ג. $z = r$
 ד. $\theta = \frac{\pi}{4}$
 ה. $r = 4 \sin \theta$
 ו. $r^2 \cos 2\theta = z$

- 4) בכל אחד מהסעיפים הבאים נתונה משוואה של משטח במערכת כדורית. הציגו את המשוואה במערכת קרטזית. מהו שם המשטח?

א. $r = 3$

ב. $\theta = \frac{\pi}{3}$

ג. $\phi = \frac{\pi}{4}$

ד. $r = 2 \sec \phi$

ה. $r = 4 \cos \phi$

- 5) בכל אחד מהסעיפים הבאים נתונה משוואה של משטח במערכת כדורית. הציגו את המשוואה במערכת קרטזית. מהו שם המשטח? שרטטו את המשטח.

א. $r \sin \phi = 1$

ב. $r \sin \phi = 2 \cos \theta$

ג. $r - 2 \sin \phi \cos \theta = 0$

- 6) בכל אחד מהסעיפים הבאים גוף במרחב. תארו אותו במילים, שרטטו אותו, וכתבו אותו בקואורדינטות גליליות.

א. $V = \{(x, y, z) \mid \sqrt{x^2 + y^2} \leq z \leq 2 - x^2 - y^2\}$

ב. $V = \{(x, y, z) \mid x^2 + y^2 \leq z \leq \sqrt{6 - x^2 - y^2}\}$

- 7) בכל אחד מהסעיפים הבאים גוף במרחב. תארו אותו במילים, שרטטו אותו, וכתבו אותו בקואורדינטות גליליות.

א. $V = \{(x, y, z) \mid x^2 + y^2 \leq z \leq 1 - x^2 - y^2\}$

ב. $V = \{(x, y, z) \mid 0 \leq z \leq 4 - x^2 - y^2, x^2 + y^2 - 2x \leq 0\}$

- 8) בכל אחד מהסעיפים הבאים גוף במרחב. תארו אותו במילים, שרטטו אותו, וכתבו אותו בקואורדינטות גליליות.

א. $V = \{(x, y, z) \mid x^2 + y^2 + z^2 \leq 4, x^2 + y^2 \leq 1\}$

ב. $V = \{(x, y, z) \mid x^2 + y^2 + z \leq 4, x \geq 0, y \geq 0, z \geq 0, x^2 + y^2 \leq 1\}$

ג. $V = \{(x, y, z) \mid \sqrt{x^2 + y^2} \leq z \leq \sqrt{4 - x^2 - y^2}, x^2 + y^2 \leq 1\}$

ד. $U = \{(x, y, z) \mid 0 \leq z \leq 10 - y, 1 \leq x^2 + y^2 \leq 4\}$

תשובות סופיות

1 א. מערכת גלילית: $z = 3$. מערכת כדורית: $r = \frac{3}{\cos \phi}$. שם המשטח: מישור.

ב. מערכת גלילית: $z = 4r^2$. מערכת כדורית: $r = \frac{\cos \phi}{4 \sin^2 \phi}$.

שם המשטח: פרבולואיד.

ג. מערכת גלילית: $r = 2$. מערכת כדורית: $r = \frac{2}{\sin \phi}$. שם המשטח: גליל.

2 א. מערכת גלילית: $r^2 + z^2 = 9$. מערכת כדורית: $r = 3$. שם המשטח: ספירה.

ב. מערכת גלילית: $r(2 \cos \theta + 3 \sin \theta) + 4z = 1$.

מערכת כדורית: $r(2 \cos \theta \sin \phi + 3 \sin \theta \sin \phi + 4 \cos \phi) = 1$.

שם המשטח: מישור.

ג. מערכת גלילית: $r^2 \cos^2 \theta + z^2 = 16$. מערכת כדורית: $r^2(1 - \sin^2 \theta \sin^2 \phi) = 16$.

שם המשטח: גליל.

ד. מערכת גלילית: $z = r$. מערכת כדורית: $\phi = \frac{\pi}{4}$. שם המשטח: חרוט.

3 א. מערכת קרטזית: $x^2 + y^2 = 9$. שם המשטח: גליל.

ב. מערכת קרטזית: $z = x^2 + y^2$. שם המשטח: פרבולואיד.

ג. מערכת קרטזית: $z = \sqrt{x^2 + y^2}$. שם המשטח: חרוט.

ד. מערכת קרטזית: $y = x$. שם המשטח: מישור.

ה. מערכת קרטזית: $x^2 + (y - 2)^2 = 4$. שם המשטח: גליל.

ו. מערכת קרטזית: $z = x^2 - y^2$. שם המשטח: פרבולואיד היפרבולי.

4 א. מערכת קרטזית: $x^2 + y^2 + z^2 = 9$. שם המשטח: ספירה.

ב. מערכת קרטזית: $y = \sqrt{3}x$. שם המשטח: מישור.

ג. מערכת קרטזית: $z = \sqrt{x^2 + y^2}$. שם המשטח: חרוט.

ד. מערכת קרטזית: $z = 2$. שם המשטח: מישור.

ה. מערכת קרטזית: $x^2 + y^2 + (z - 2)^2 = 4$.

שם המשטח: ספירה שמרכזה בנקודה $(0, 0, 2)$ ורדיוסה 2.

5 א. מערכת קרטזית: $x^2 + y^2 = 1$. שם המשטח: גליל.

ב. מערכת קרטזית: $(x - 1)^2 + y^2 = 1$. שם המשטח: גליל.

ג. מערכת קרטזית: $(x - 1)^2 + y^2 + z^2 = 1$. שם המשטח: ספירה.

6 א. $V_{r\theta z} = \{(r, \theta, z) \mid 0 \leq r \leq 1, 0 \leq \theta \leq 2\pi, r \leq z \leq 2 - r^2\}$

ב. $V_{r\theta z} = \{(r, \theta, z) \mid 0 \leq r \leq \sqrt{2}, 0 \leq \theta \leq 2\pi, r^2 \leq z \leq \sqrt{6 - r^2}\}$

$$V_{r\theta z} = \{(r, \theta, z) \mid 0 \leq r \leq \sqrt{0.5}, 0 \leq \theta \leq 2\pi, r^2 \leq z \leq 1 - r^2\} \quad \text{א. (7)}$$

$$V_{r\theta z} = \{(r, \theta, z) \mid 0 \leq r \leq 2 \cos \theta, -0.5\pi \leq \theta \leq 0.5\pi, 0 \leq z \leq 4 - r^2\} \quad \text{ב.}$$

$$V_{r\theta z} = \{(r, \theta, z) \mid 0 \leq r \leq 1, 0 \leq \theta \leq 2\pi, -\sqrt{4 - r^2} \leq z \leq \sqrt{4 - r^2}\} \quad \text{א. (8)}$$

$$V_{r\theta z} = \{(r, \theta, z) \mid 0 \leq r \leq 1, 0 \leq \theta \leq \frac{\pi}{2}, 0 \leq z \leq \sqrt{4 - r^2}\} \quad \text{ב.}$$

$$V_{r\theta z} = \{(r, \theta, z) \mid 0 \leq r \leq 1, 0 \leq \theta \leq 2\pi, r \leq z \leq \sqrt{4 - r^2}\} \quad \text{ג.}$$

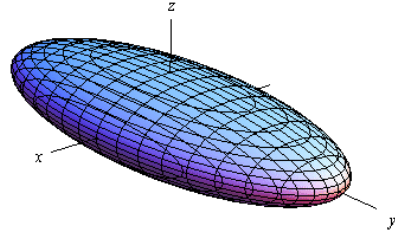
$$V_{r\theta z} = \{(r, \theta, z) \mid 1 \leq r \leq 2, 0 \leq \theta \leq 2\pi, 0 \leq z \leq 10 - r \sin \theta\} \quad \text{ד.}$$

נספח – משטחים ממעלה שנייה

אליפסואיד

$$\frac{x^2}{a^2} + \frac{y^2}{b^2} + \frac{z^2}{c^2} = 1 : \text{משוואה}$$

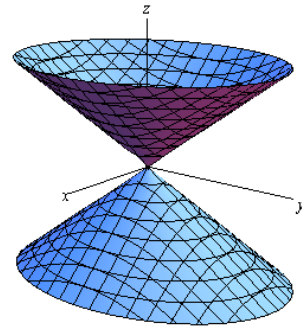
תיאור: החתכים במישורי הקואורדינטות הם אליפסות; כך הם גם החתכים במישורים מקבילים. אם $a=b=c$, נקבל **כדור** עם רדיוס a והחתכים הנ"ל הם מעגלים.



חרוט אליפטי

$$\frac{x^2}{a^2} + \frac{y^2}{b^2} = \frac{z^2}{c^2} : \text{משוואה}$$

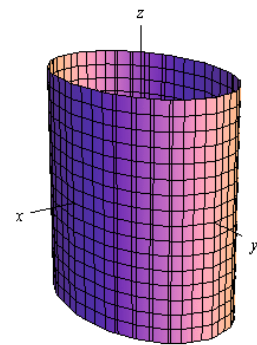
תיאור: החתך במישור xy הוא נקודה (הראשית); החתכים במישורים מקבילים למישור xy הם אליפסות. החתכים במישור xz ו- yz הם זוג ישרים הנחתכים בראשית; החתכים במישורים מקבילים למישורים אלו הם היפרבולות. * מרכז החרוט הוא על הציר המתאים למשתנה המופיע לבד באחד האגפים.



גליל אליפטי

$$\frac{x^2}{a^2} + \frac{y^2}{b^2} = 1 : \text{משוואה}$$

תיאור: החתך במישור xy הוא אליפסה; כך הם החתכים במישורים מקבילים למישור xy . החתכים במישור xz ו- yz הם זוג ישרים מקבילים וכך הם החתכים במישורים מקבילים למישורים אלו. במידה ומשוואת הגליל היא $x^2 + y^2 = r^2$, החתכים הנ"ל הם מעגלים. * מרכז הגליל הוא על הציר המתאים למשתנה שאינו מופיע במשוואת הגליל.



היפרבולואיד חד-יריעתי

$$\frac{x^2}{a^2} + \frac{y^2}{b^2} - \frac{z^2}{c^2} = 1 : \text{משוואה}$$

תיאור: החתך במישור xy הוא אליפסה; כך הם החתכים במישורים מקבילים למישור xy . החתכים במישור xz ו- yz הם היפרבולות; כך הם גם החתכים במישורים מקבילים למישורים אלו.

* מרכז היפרבולואיד חד-יריעתי הוא על הציר המתאים למשתנה שלפניו המינוס.



היפרבולואיד דו-יריעתי

$$\frac{x^2}{a^2} + \frac{y^2}{b^2} - \frac{z^2}{c^2} = -1 : \text{משוואה}$$

תיאור: למשטח זה אין חתך במישור xy ; החתכים במישורים מקבילים למישור xy , החותכים את המשטח, הם אליפסות. החתכים במישור xz ו- yz הם היפרבולות; כך הם גם החתכים במישורים מקבילים למישורים אלו.

* מרכז היפרבולואיד דו-יריעתי הוא על הציר המתאים למשתנה שלפניו המינוס.



פרבולואיד אליפטי

$$\frac{x^2}{a^2} + \frac{y^2}{b^2} = \frac{z}{c} : \text{משוואה}$$

תיאור: החתך במישור xy הוא נקודה (הראשית); החתכים במישורים מקבילים למישור xy ונמצאים מעליו הם אליפסות. החתכים במישור xz ו- yz הם פרבולות; כך הם גם החתכים במישורים מקבילים למישורים אלו.

* מרכז הפרבולואיד האליפטי הוא על הציר המתאים למשתנה המופיע ללא ריבוע.

* אם $c > 0$ הפרבולואיד נפתח כלפי מעלה ואם $c < 0$ הפרבולואיד נפתח כלפי מטה.



פרבולואיד היפרבולי



$$\text{משוואה: } \frac{x^2}{a^2} - \frac{y^2}{b^2} = \frac{z}{c}$$

תיאור: החתך במישור xy הוא זוג ישרים נחתכים בראשית; החתכים במישורים מקבילים למישור xy הם היפרבולות; אלו שמעל למישור xy נפתחות בכיוון ציר ה- x ואלו שמתחת למישור xy נפתחות בכיוון ציר ה- y . החתכים במישור xz ו- yz הם פרבולות; כך הם גם החתכים במישורים מקבילים למישורים אלו.

* מרכז הפרבולואיד האליפטי הוא על הציר המתאים למשתנה המופיע ללא ריבוע.

* אם $c > 0$ הפרבולואיד נפתח כלפי מעלה ואם $c < 0$ הפרבולואיד נפתח כלפי מטה.

דוגמאות שונות



$$z = 3 - x^2 - y^2$$



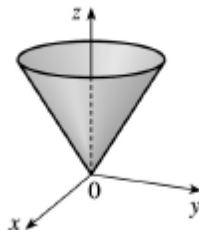
$$\frac{x^2}{4} + \frac{y^2}{4} + \frac{z^2}{16} = 1$$



$$x^2 + y^2 + z^2 = 1$$



$$x + y + z = 1$$



$$z = \sqrt{x^2 + y^2}$$



$$z = 4x^2 + y^2 + 1$$