

# מבוא למאקרו כלכלה

פרק 14 - פתרון ממן 14 לדוגמה

תוכן העניינים

1. כללי..... 1

## פתרון ממך 14 לדוגמה:

### שאלות:

1) ענו על הסעיפים הבאים:

- א. רשום כל עסקה במאזן התשלומים:
- i. יבואן רכש סחורה מחו"ל ב-500 מיליון דולר ושילם במזומן.
  - ii. חברת תוכנה ישראלית מכרה תוכנות ב-300 מיליון דולר קיבלה 100 במזומן ואת היתרה באשראי לשנתיים.
  - iii. חברה ישראלית פרעה חובות לחו"ל בערך של 80 מיליון דולר ושילמה ריבית על יתרת החוב בסך 20 מיליון דולר.
  - iv. ברוקר אמריקאי הפקיד 100 מיליון דולר בפקדונות שקליים בבנק מקומי.
  - v. ממשלת ישראל קיבלה ממשלת ארה"ב ציוד צבאי בשווי 150 מיליון דולר כאשר מחצית כמענק והשאר כאשראי.
- ב. מה קורה לכל חשבון?

2) נתחו את השינויים בשוק מטבע חוץ בעקבות השינויים הבאים במשק:

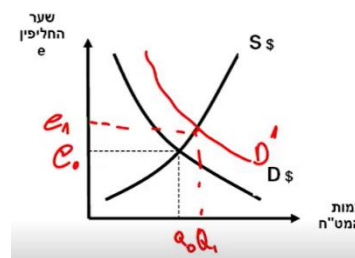
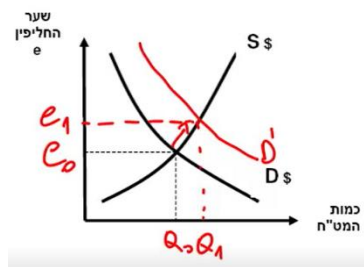
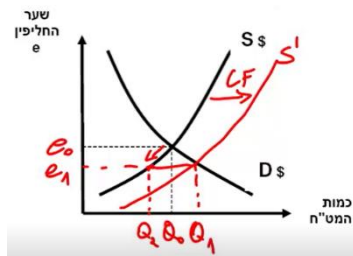
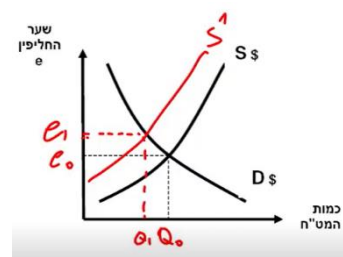
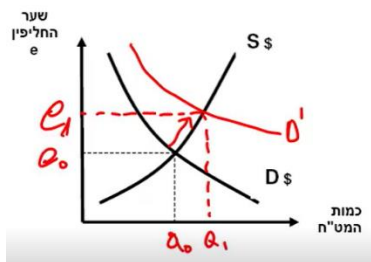
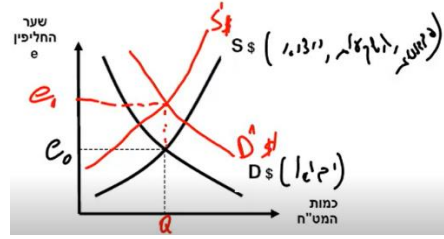
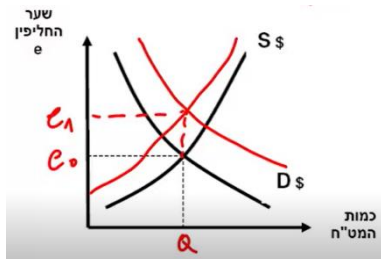
- א. רמת המחירים המקומית עלתה.
- ב. האינפלציה בישראל גבוהה מהאינפלציה במדינות איתן היא סוחרת.
- ג. ארה"ב הקטינה את הסיוע הביטחוני לישראל.
- ד. כתוצאה ממסע פרסום של לשכת המסחר האמריקאית בישראל, עלה הביקוש למוצרים מיובאים מארה"ב.
- ה. עקב רווחיות גבוהה בשוקי המזרח הרחוק גדלה מאוד השקעת ישראלים בנכסים בחו"ל.
- ו. שער הריבית המקומי לא השתנה ושער הריבית העולמי ירד.
- ז. הממשלה הפחיתה מכסים על מוצרי יבוא רבים.

- 3) עקב עליית שער הריבית המקומי, חל גידול בתנועות ההון הנכנסות למשק. כתוצאה מכך ירד שער החליפין לגבול התחתון של הרצועה, ובנק ישראל התערב, כדי למנוע ירידה נוספת.
- א. הראו בתרשים של שוק המט"ח כיצד עליית שער הריבית המקומי גורמת לירידת שער החליפין. הסבירו מה על הבנק המרכזי לעשות כדי לתמוך בשער החליפין שלא ירד מהגבול התחתון של הרצועה.
- ב. מה יקרה ליתרות המט"ח ולכמות הכסף מכך שהבנק המרכזי תומך בגבול התחתון של הרצועה?
- ג. האם לבנק המרכזי יש השפעה על שער החליפין גם במשטר של שע"ח נייד? (כלומר – כאשר הבנק אינו מתערב ישירות בשוק המט"ח ע"י קנייה או מכירה).
- ד. לאחרונה עלה דירוג האשראי של ישראל, המהווה מדד לחוסנה הכלכלי של המדינה, וכתוצאה מכך משקיעים זרים מרחבי העולם החלו להגדיל את השקעותיהם בישראל. עקב כך, נפגעו היצואנים. לאור זאת, החליט נגיד בנק ישראל להוריד את שער הריבית המקומי. הראו בתרשים של שוק מט"ח כיצד השפיעו פעולותיהם של המשקיעים הזרים על שער החליפין. הראו בתרשים והסבירו מדוע נקט הנגיד במדיניות זו.

תשובות סופיות:

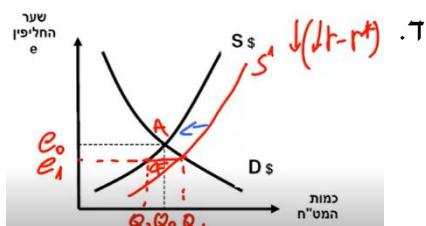
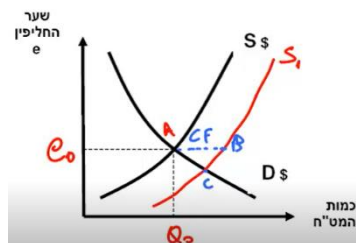
1) ראו סרטון.

2) א.



ב. יתרות המט"ח וכמות הכסף עולות.

3) א.



ג. כן.