

## מתמטיקה לביולוגים 2

פרק 7 - פתרון וחקירת מערכת משוואות ליניאריות

תוכן העניינים

1. פתרון מערכת משוואות ליניאריות ..... 1
2. חקירת מערכת משוואות ליניאריות (עם פרמטר) ..... 6
3. שימושים של מערכת משוואות ליניאריות ..... 9
4. פתרון וחקירת מערכת הומוגנית של משוואות ליניאריות ..... 11

## פתרון מערכת משוואות ליניאריות

### שאלות

(1) מצאו אילו מהמערכות הבאות הן מערכות שקולות:

$$\begin{array}{llll}
 2x + y = 4 & x - y = 0 & x - 4y = -7 & x + 10y = 11 \\
 x + y = 3 & 2x + y = 3 & x - y = -1 & 2x - 2y = 0
 \end{array}
 \begin{array}{l}
 \cdot \text{ד} \\
 \cdot \text{ג} \\
 \cdot \text{ב} \\
 \cdot \text{א}
 \end{array}$$

(2) רשמו את המטריצות המתאימות למערכות המשוואות הבאות:

$$\begin{array}{llll}
 x = 3 & x - 4y + z = -7 & x + 10y = 11 & \\
 2x + y + z = 3 & x - y = -1 & 2x - 2 = 0 & \\
 x - z = 0 & x + y + z = 5 & x + y = 3 & \\
 2x + y = 4 & & & \\
 z + t = 8 & & & 
 \end{array}
 \begin{array}{l}
 \cdot \text{ג} \\
 \cdot \text{ב} \\
 \cdot \text{א} \\
 \cdot \text{ד}
 \end{array}$$

בשאלות 3-5 בצעו על כל מטריצה את הפעולות הרשומות מתחתיה, בזו אחר זו, ומצאו את המטריצה המתקבלת (סדר הפעולות הוא משמאל לימין ומלמעלה למטה).

$$\begin{array}{lll}
 \begin{pmatrix} 3 & -4 & 8 & 1 \\ 2 & -3 & 6 & 0 \\ -1 & 4 & -5 & 1 \end{pmatrix} & \text{(5)} & \begin{pmatrix} 4 & 1 & 0 & 2 \\ -1 & 2 & 1 & 0 \\ 0 & 3 & 1 & -1 \end{pmatrix} & \text{(4)} & \begin{pmatrix} 3 & 5 & -1 & 0 \\ 2 & 1 & 4 & 2 \\ 5 & 0 & -2 & 6 \end{pmatrix} & \text{(3)} \\
 R_1 \rightarrow R_1 + 3R_3, R_2 \rightarrow R_2 + 3R_3 & & R_2 \rightarrow 4R_2, R_2 \rightarrow R_2 + R_1 & & R_1 \leftrightarrow R_2, R_1 \rightarrow 2R_1 \\
 R_1 \rightarrow 5R_1 - 8R_2 & & R_2 \leftrightarrow R_3, R_3 \rightarrow R_3 - 3R_2 & & R_3 \rightarrow R_3 + R_1, R_1 \leftrightarrow R_3
 \end{array}$$

(6) מצאו איזה פעולה אלמנטרית אחת יש לבצע על המטריצה שמשמאל, כדי לקבל את המטריצה מימין:

$$\begin{array}{l}
 \text{א.} \quad \begin{pmatrix} 1 & -2 & 4 \\ 4 & 1 & 1 \end{pmatrix} \rightarrow \begin{pmatrix} 6 & -3 & 9 \\ 4 & 1 & 1 \end{pmatrix} \\
 \text{ב.} \quad \begin{pmatrix} 1 & 0 & -4 & 1 \\ 4 & 2 & 1 & 1 \\ 0 & 1 & 0 & 4 \end{pmatrix} \rightarrow \begin{pmatrix} 1 & 0 & -4 & 1 \\ 0 & 2 & 17 & -3 \\ 0 & 1 & 0 & 4 \end{pmatrix} \\
 \text{ג.} \quad \begin{pmatrix} 1 & 0 \\ 0 & 1 \\ 4 & 4 \end{pmatrix} \rightarrow \begin{pmatrix} 1 & 0 \\ 4 & 2 \\ 4 & 4 \end{pmatrix}
 \end{array}$$

בשאלות 7-15 הביאו את המטריצות הבאות לצורה מדורגת  
 (בשאלות 7, 9, 11 ו-13 – גם לצורה מדורגת קנונית):

$$\begin{pmatrix} 3 & 6 & 3 & -6 & 5 \\ 2 & 4 & 1 & -2 & 3 \\ 1 & 2 & -1 & 2 & 1 \end{pmatrix} \quad (8) \qquad \begin{pmatrix} 1 & 2 & -3 & -2 & 4 & 1 \\ 2 & 5 & -8 & -1 & 6 & 4 \\ 1 & 4 & -7 & 5 & 2 & 8 \end{pmatrix} \quad (7)$$

$$\begin{pmatrix} 4 & 1 & 1 & 5 \\ 0 & 11 & -5 & 3 \\ 2 & -5 & 3 & 1 \\ 1 & 3 & -1 & 2 \end{pmatrix} \quad (10) \qquad \begin{pmatrix} 1 & 2 & -1 & 3 \\ 1 & 3 & 1 & 5 \\ 3 & 8 & 4 & 17 \end{pmatrix} \quad (9)$$

$$\begin{pmatrix} 0 & 0 & 0 & 1 & 1 & 0 \\ 0 & 0 & 0 & 0 & 1 & 0 \\ 0 & 0 & 0 & 0 & 0 & 0 \\ 0 & 0 & 1 & 1 & 1 & 1 \end{pmatrix} \quad (12) \qquad \begin{pmatrix} 1 & 2 & 1 & 3 & 5 \\ 2 & 5 & 3 & 1 & 6 \\ 1 & -1 & -2 & 2 & 1 \\ -2 & 3 & 5 & -4 & -1 \end{pmatrix} \quad (11)$$

$$\begin{pmatrix} 1 & 3 & -2 & 2 & 3 \\ 1 & 4 & -3 & 4 & 2 \\ 2 & 3 & -1 & -2 & 9 \\ 1 & 3 & 0 & 2 & 1 \\ 2 & 5 & 3 & 2 & 1 \\ 1 & 5 & -6 & 6 & 3 \end{pmatrix} \quad (14) \qquad \begin{pmatrix} 1 & 2 & 1 & 3 & 5 \\ 2 & 5 & 3 & 1 & 6 \\ -1 & 1 & 2 & -2 & -1 \\ -2 & 3 & 5 & -4 & -1 \\ 3 & -2 & -5 & 1 & -1 \end{pmatrix} \quad (13)$$

$$\begin{pmatrix} 1 & 1+i \\ 1+i & 2i \\ 2+i & 1+3i \end{pmatrix} \quad (15)$$

$$F=\mathbb{C}, F=\mathbb{R}$$

\* בשאלה 15 יש לדרג את המטריצה פעם מעל השדה  $\mathbb{C}$  ופעם מעל השדה  $\mathbb{R}$ .

בשאלות 16-27 פתרו את מערכות המשוואות בשיטת גאוס (כלומר, על ידי דירוג):

$$\begin{aligned} 4x + 8y &= 20 \\ 3x + 6y &= 15 \end{aligned} \quad (17)$$

$$\begin{aligned} 2x + 3y &= 8 \\ 5x - 4y &= -3 \end{aligned} \quad (16)$$

$$\begin{aligned} 2x_1 - x_2 - 3x_3 &= 5 \\ 3x_1 - 2x_2 + 2x_3 &= 5 \\ 10x_1 - 6x_2 - 2x_3 &= 32 \end{aligned} \quad (19)$$

$$\begin{aligned} 8x - 4y &= 10 \\ -6x + 3y &= 1 \end{aligned} \quad (18)$$

$$\begin{aligned} x + 2y + 3z &= 3 \\ 4x + 6y + 16z &= 8 \\ 3x + 2y + 17z &= 1 \end{aligned} \quad (21)$$

$$\begin{aligned} x + 2y + 3z &= -11 \\ 2x + 3y - z &= -5 \\ 3x + y - z &= 2 \end{aligned} \quad (20)$$

$$\begin{aligned} 4x - 7y &= 0 \\ 8x - 14y &= 2 \\ -16x + 28y &= 4 \end{aligned} \quad (23)$$

$$\begin{aligned} x + 3y &= 2 \\ 2x + y &= -1 \\ x - y &= -2 \end{aligned} \quad (22)$$

$$\begin{aligned} x + 2y - 3z + 2t &= 2 \\ 2x + 5y - 8z + 6t &= 5 \\ 6x + 8y - 10z + 4t &= 8 \end{aligned} \quad (25)$$

$$\begin{aligned} 3x - 2y &= 1 \\ -9x + 6y &= -3 \\ 6x - 4y &= 2 \end{aligned} \quad (24)$$

$$\begin{aligned} x + 2y + 2z &= 2 \\ 3x - 2y - z &= 5 \\ 2x - 5y + 3z &= -4 \\ 2x + 8y + 12z &= 0 \end{aligned} \quad (27)$$

$$\begin{aligned} x_1 + 5x_2 + 4x_3 - 13x_4 &= 3 \\ 3x_1 - x_2 + 2x_3 + 5x_4 &= 2 \\ 2x_1 + 2x_2 + 3x_3 - 4x_4 &= 0 \end{aligned} \quad (26)$$

28) פתרו את מערכת המשוואות הבאה בשיטת גאוס, מעל השדה  $F$ :

$$z_1 + iz_2 + (1-i)z_3 = 1 + 4i$$

$$iz_1 + z_2 + (1+i)z_3 = 2 + i$$

$$(-1+3i)z_1 + (3-i)z_2 + (2+4i)z_3 = 5 - i$$

א.  $F = \mathbb{R}$

ב.  $F = \mathbb{C}$

## תשובות סופיות

1) א ו-ג שקולות, ו-ב ו-ד שקולות.

$$\begin{pmatrix} 2 & 1 & 1 & 3 \\ 1 & 0 & -1 & 0 \end{pmatrix} \text{ ג.} \quad \begin{pmatrix} 1 & -4 & 1 & -7 \\ 1 & -1 & 0 & -1 \\ 1 & 1 & 1 & 5 \end{pmatrix} \text{ ב.} \quad \begin{pmatrix} 1 & 10 & 11 \\ 2 & 0 & 2 \\ 1 & 1 & 3 \end{pmatrix} \text{ א.} \quad (2)$$

$$\begin{pmatrix} 1 & 0 & 0 & 0 & 3 \\ 2 & 1 & 0 & 0 & 4 \\ 0 & 0 & 1 & 1 & 8 \end{pmatrix} \text{ ד.}$$

$$\begin{pmatrix} 0 & 0 & -4 & 4 \\ 0 & 5 & -4 & 2 \\ -1 & 4 & -5 & 1 \end{pmatrix} (5) \quad \begin{pmatrix} 4 & 1 & 0 & 2 \\ 0 & 3 & 1 & -1 \\ 0 & 0 & 1 & 5 \end{pmatrix} (4) \quad \begin{pmatrix} 9 & 2 & 6 & 8 \\ 3 & 5 & -1 & 0 \\ 4 & 2 & 8 & 2 \end{pmatrix} (3)$$

6) א.  $R_1 \rightarrow 2R_1 + R_2$  ב.  $R_2 \rightarrow R_2 - 4R_1$  ג.  $R_2 \rightarrow 2R_2 + 4R_1$

$$\begin{pmatrix} 1 & 0 & 1 & 0 & 24 & 21 \\ 0 & 1 & -2 & 0 & -8 & -7 \\ 0 & 0 & 0 & 1 & 2 & 3 \end{pmatrix} \text{ ג.} \quad \begin{pmatrix} 1 & 2 & -3 & -2 & 4 & 1 \\ 0 & 1 & -2 & 3 & -2 & 2 \\ 0 & 0 & 0 & 1 & 2 & 3 \end{pmatrix} \text{ ב.} \quad (7)$$

$$\begin{pmatrix} 1 & 2 & -1 & 2 & 1 \\ 0 & 0 & 3 & -6 & 1 \\ 0 & 0 & 0 & 0 & 0 \end{pmatrix} (8)$$

$$\begin{pmatrix} 1 & 0 & 0 & \frac{17}{3} \\ 0 & 1 & 0 & -\frac{2}{3} \\ 0 & 0 & 1 & \frac{4}{3} \end{pmatrix} \text{ ג.} \quad \begin{pmatrix} 1 & 2 & -1 & 3 \\ 0 & 1 & 2 & 2 \\ 0 & 0 & 3 & 4 \end{pmatrix} \text{ ב.} \quad (9)$$

$$\begin{pmatrix} 1 & 3 & -1 & 2 \\ 0 & 11 & -5 & 3 \\ 0 & 0 & 0 & 0 \\ 0 & 0 & 0 & 0 \end{pmatrix} (10)$$

$$\begin{pmatrix} 1 & 0 & -1 & 0 & 0 \\ 0 & 1 & 1 & 0 & 1 \\ 0 & 0 & 0 & 1 & 1 \\ 0 & 0 & 0 & 0 & 0 \end{pmatrix} \text{ ג.} \quad \begin{pmatrix} 1 & 2 & 1 & 3 & 5 \\ 0 & 1 & 1 & -5 & -4 \\ 0 & 0 & 0 & 1 & 1 \\ 0 & 0 & 0 & 0 & 0 \end{pmatrix} \text{ ב.} \quad (11)$$

$$\begin{pmatrix} 0 & 0 & 1 & 1 & 1 & 1 \\ 0 & 0 & 0 & 1 & 1 & 0 \\ 0 & 0 & 0 & 0 & 1 & 0 \\ 0 & 0 & 0 & 0 & 0 & 0 \end{pmatrix} (12)$$

$$\begin{pmatrix} 1 & 0 & -1 & 0 & 0 \\ 0 & 1 & 1 & 0 & 1 \\ 0 & 0 & 0 & 1 & 1 \\ 0 & 0 & 0 & 0 & 0 \\ 0 & 0 & 0 & 0 & 0 \end{pmatrix} \rightarrow \begin{pmatrix} 1 & 2 & 1 & 3 & 5 \\ 0 & 1 & 1 & -5 & -4 \\ 0 & 0 & 0 & 1 & 1 \\ 0 & 0 & 0 & 0 & 0 \\ 0 & 0 & 0 & 0 & 0 \end{pmatrix} \quad (13)$$

$$\begin{pmatrix} 1 & 3 & -2 & 2 & 3 \\ 0 & 1 & -1 & 2 & -1 \\ 0 & 0 & -2 & 0 & 2 \\ 0 & 0 & 0 & 0 & 0 \\ 0 & 0 & 0 & 0 & 0 \\ 0 & 0 & 0 & 0 & 0 \end{pmatrix} \quad (14)$$

$$\begin{pmatrix} 1 & 1+i \\ 1+i & 2i \\ 0 & 0 \end{pmatrix}, \begin{pmatrix} 1 & 1+i \\ 0 & 0 \\ 0 & 0 \end{pmatrix} \quad (15)$$

$F=\mathbb{R} \qquad F=\mathbb{C}$

$$\phi \quad (18) \qquad (x, y) = (5 - 2t, t) \quad (17) \qquad (x, y) = (1, 2) \quad (16)$$

$$(x_1, x_2, x_3) = (1, -3, -2) \quad (20) \qquad \phi \quad (19)$$

$$(x, y) = (-1, 1) \quad (22) \qquad (x, y, z) = (-1 - 7t, 2 + 2t, t) \quad (21)$$

$$(x, y) = \left( \frac{1+2t}{3}, t \right) \quad (24) \qquad \phi \quad (23)$$

$$\phi \quad (26) \qquad (x, y, z, t) = (-a + 2b, 1 + 2a - 2b, a, b) \quad (25)$$

$$(x, y, z) = (2, 1, -1) \quad (27)$$

$$(z_1, z_2, z_3) = ((-1+i)t + 1 + i, 3, t) \quad \text{ב} \quad (28) \qquad (z_1, z_2, z_3) = (2, 3, -1) \quad \text{א} \quad (28)$$

$F=\mathbb{C} \qquad F=\mathbb{R}$

## חקירת מערכת משוואות ליניאריות (עם פרמטר)

### שאלות

בשאלות 1-6 מצאו לאילו ערכי  $k$  (אם יש כאלה) יש למערכות:  
1. פתרון יחיד. 2. אף פתרון. 3. אינסוף פתרונות.

$$\begin{array}{l} x + ky + z = 1 \\ x + y + kz = 1 \quad (2) \\ kx + y + z = 1 \end{array} \quad \begin{array}{l} x - y + z = 1 \\ 5x - 7y + (k^2 + 3)z = k^2 + 1 \quad (1) \\ 3x - y + (k + 3)z = 3 \end{array}$$

$$\begin{array}{l} 2x - y + z = 0 \\ x + 2y - z = 0 \quad (4) \\ 5x + (1 - k)y + k^2z = 1 \end{array} \quad \begin{array}{l} x + 2ky + z = 0 \\ 3x + y + kz = 2 \quad (3) \\ x + 9ky + 5z = -2 \end{array}$$

$$\begin{array}{l} x + ky + 3z = 2 \\ kx - y + z = 4 \quad (6) \\ 3x + y + (2 + k)z = 0 \end{array} \quad \begin{array}{l} kx - y = 1 \\ (k - 2)x + ky = -2 \quad (5) \\ (k^2 - 1)z = 9 \end{array}$$

בשאלות 7-9 מצאו לאילו ערכי  $k$  (אם יש כאלה) יש למערכות:  
1. פתרון יחיד. 2. אף פתרון. 3. אינסוף פתרונות.

$$\begin{array}{l} 2x - 3y + z = 1 \\ 4x + (k^2 - 5k)y + 2z = k \quad (8) \end{array} \quad \begin{array}{l} 2x + ky = 3 \\ (k + 3)x + 2y = k^2 + 5 \quad (7) \\ 6x + 3ky = 7k^2 + 2 \end{array}$$

$$\begin{array}{l} 3x + 4y - z = 2 \\ kx - 2y + z = -1 \\ x + 8y - 3z = k \\ 2x + 6y - 2z = 0.5k + 1 \end{array} \quad (9)$$

בשאלות 10-12 מצאו לאילו ערכים של  $a$  ושל  $b$  (אם יש כאלה) יש למערכות:  
1. פתרון יחיד. 2. אף פתרון. 3. אינסוף פתרונות.

$$\begin{array}{l} x + y - z + t = 1 \\ ax + y + z + t = b \quad (12) \\ 3x + 2y + at = 1 + a \end{array} \quad \begin{array}{l} 2x + 4y + az = -1 \\ x + 2y + 4z = -4 \\ x + 2y - 4z = 0 \\ x + 2y + 6z = -2b \end{array} \quad \begin{array}{l} x + 2y - 4z = b \\ 7x - 10y + 16z = 7 \quad (10) \\ 2x - ay + 3z = 1 \end{array} \quad (11)$$

$$x + az = 1$$

$$y + 2z = 2 \quad (13) \text{ נתונה מערכת המשוואות:}$$

$$bx + cy + dz = 3$$

- א. מצאו תנאי עבור  $a, b, c, d$ , כך שלמערכת יהיה פתרון יחיד.  
 ב. מצאו תנאי עבור  $b, c, d$ , כך שלכל  $a$ , למערכת יהיו אינסוף פתרונות.

$$(14) \text{ נתונה המערכת: } \begin{cases} x + y - z = 1 \\ 3x - 7y + (k^2 + 1)z = k^2 - 1 \\ 4x - 6y + (k + 2)z = 4 \end{cases}$$

- א. רשמו את המטריצה המתאימה למערכת המשוואות.  
 ב. רשמו את הצורה המדורגת של המטריצה מסעיף א.  
 ג. מצאו לאילו ערכי  $k$  יש למערכת:  
 1. פתרון יחיד. 2. אף פתרון. 3. אינסוף פתרונות.  
 ד. רשמו את הפתרון הכללי במקרה בו יש אינסוף פתרונות.  
 ה. מצאו לאילו ערכי  $k$  יש למערכת פתרון שבו  $z = 0$ .  
 ו. מצאו לאילו ערכי  $k$  יש למערכת פתרון יחיד שבו  $z = 0$ .  
 ז. מצאו עבור איזה ערך של  $k$  פתרון של המשוואה השלישית הוא  $(1, 2, 3)$ .  
 האם ייתכן שהפתרון הנ"ל הוא גם פתרון של כל המערכת? הסבירו.  
 ח. מצאו לאיזה ערך של  $k$ , הוא הפתרון היחיד של המערכת.

$$(15) \text{ נתונות המשוואות של 3 מישורים: } \begin{cases} 3x + my = 3 \\ mx + 2y - mz = 1 \\ -x + mz = -1 \end{cases}$$

- בסעיפים א-ג מצאו עבור אילו ערכים של  $m$  שלוש המישורים:  
 א. נפגשים בנקודה אחת (מצא נקודה זו).  
 ב. לא נפגשים באף נקודה.  
 ג. בעלי אינסוף נקודות משותפות (מצא נקודות אילו).  
 ד. האם קיים ערך של  $m$  עבורו 3 המישורים מתלכדים או מקבילים?

## תשובות סופיות

(1) 1.  $k \neq 1, k \neq -2$  .2  $k = 1$  .3  $k = -2$

(2) 1.  $k \neq 1, k \neq -2$  .2  $k = -2$  .3  $k = 1$

(3) 1.  $k \neq -1, k \neq \frac{4}{7}$  .2  $k = \frac{4}{7}$  .3  $k = -1$

(4) 1.  $k \neq 1, k \neq -0.4$  .2  $k = 1, k = -0.4$

(5) 1.  $k \neq \pm 1, k \neq -2$  .2  $k = \pm 1, k = -2$

(6) 1.  $k \neq -1, k \neq -3, k \neq 2$  .3  $k = -1, k = -3, k = 2$

(7) 1.  $k = -1$  .2  $k \neq \pm 1$  .3  $k = 1$

(8) 1.  $k \neq 1$  .2  $k = 3$  .3  $k \neq 3$

(9) 1.  $k \neq 1$  .2  $k = 1$

(10) 1.  $a \neq 2$  .2  $a = 2, b \neq -3$  .3  $a = 2, b = -3$

(11) 1.  $a \neq -6$  או  $b \neq 2.5$  .2  $a = -6, b = 2.5$  .3

(12) 1.  $a = 2, b \neq 2$  .2  $a \neq 2$  או  $a = 2, b = 2$  .3

(13) א.  $ab + 2c \neq d$  .ב.  $b = 0, c = 1.5, d = 3$

(14) א.  $\begin{pmatrix} 1 & 1 & -1 & 1 \\ 3 & -7 & k^2 + 1 & k^2 - 1 \\ 4 & -6 & k + 2 & 4 \end{pmatrix}$  .ב.  $\begin{pmatrix} 1 & 1 & -1 & 1 \\ 0 & -10 & k^2 + 4 & k^2 - 4 \\ 0 & 0 & -k^2 + k + 2 & 4 - k^2 \end{pmatrix}$

ג. 1.  $k \neq 2, k \neq -1$  .2  $k = -1$  .3  $k = 2$  .ד.  $(x, y, z) = (1 + 0.2t, 0.8t, t)$

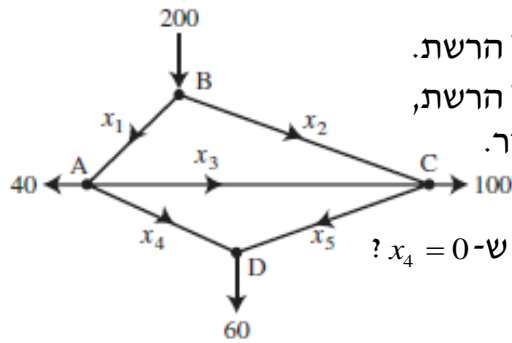
ה.  $k = \pm 2$  .ו.  $k = -2$  .ז.  $k = 2$ , לא. ח.  $k = -2$

(15) א.  $m \neq 0, -2, 3$  .ב.  $m = -2, 3$  .ג.  $m = 0$  .ד. לא.

## שימושים של מערכת משוואות ליניאריות

## שאלות

1) באיור שלהלן רשת זרימה המתארת את זרם התנועה (במכוניות לדקה) של מספר רחובות בתל אביב.



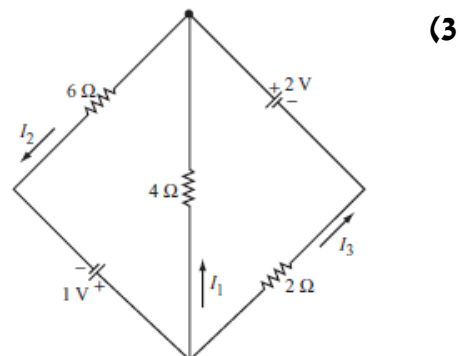
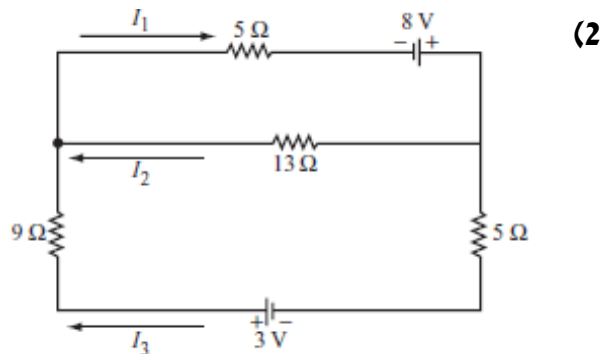
א. מצאו את תבנית הזרימה הכללית של הרשת.

ב. מצאו את תבנית הזרימה הכללית של הרשת,

אם ידוע שהכביש שהזרם שלו  $x_4$  סגור.

ג. מהו הערך המינימלי של  $x_1$ , אם ידוע ש- $x_4 = 0$ ?

בשאלות 2-3 מצאו את הזרמים במעגלים החשמליים (חוקי קירכהוף וחוק אוהם):



\* בפרק 3 (דטרמיננטות) תמצאו שאלות נוספות הנוגעות בנושא מערכת משוואות ליניאריות.

## תשובות סופיות

(1) א.  $x_3$  ו-  $x_5$  חופשיים.  $x_1 = 100 + x_3 - x_5$ ,  $x_2 = 100 - x_3 + x_5$ ,  $x_4 = 60 - x_5$ .

ב.  $x_3$  חופשי.  $x_1 = 40 + x_3$ ,  $x_2 = 160 - x_3$ ,  $x_4 = 0$ ,  $x_5 = 60$ . ג. 40.

(2) א.  $I_1 = \frac{255}{317}$ ,  $I_2 = \frac{97}{317}$ ,  $I_3 = \frac{158}{317}$

(3)  $I_1 = -\frac{5}{22}$ ,  $I_2 = \frac{7}{22}$ ,  $I_3 = \frac{6}{11}$

## פתרון וחקירת מערכת הומוגנית של משוואות לינאריות

### שאלות

$$(1) \quad \begin{cases} x - y + z = 2 \\ x + y + 2z = 6 \\ 4x - 2y + 5z = 12 \end{cases} \quad \text{פתרו את המערכת}$$

על סמך הפתרון, קבעו את הפתרון של המערכת ההומוגנית המתאימה.

$$(2) \quad \begin{cases} x - y + z = 2 \\ x + y + 2z = 6 \\ x + y + z = 4 \end{cases} \quad \text{פתרו את המערכת}$$

על סמך הפתרון, קבעו את הפתרון של המערכת ההומוגנית המתאימה.

$$(3) \quad \begin{cases} x - y = 1 \\ -x + 2y - z = k \\ 2x + my + z = 3 \end{cases} \quad \text{נתונה המערכת:}$$

- א. מצאו את ערכי  $m$ , עבורם למערכת ההומוגנית המתאימה אינסוף פתרונות.  
 ב. עבור ערך  $m$  שנמצא ב-א, מצאו את ערכי  $k$ , עבורם למערכת פתרון.  
 ג. עבור ערכי  $m, k$  שנמצאו בסעיפים הקודמים, מצאו את הפתרון הכללי של המערכת הנתונה, וקבעו את הפתרון הכללי של המערכת ההומוגנית המתאימה.

(4) נתון שהחמישייה  $(4t - 2s + 4, -t + s, 2, t, s)$  מהווה פתרון כללי של מערכת ליניארית נתונה. קבעו אילו מבין הטענות הבאות נכונות:

- א. המערכת הנתונה היא מערכת הומוגנית.  
 ב. החמישייה  $(4, 0, 2, 0, 0)$ , היא פתרון פרטי של המערכת הנתונה.  
 ג. החמישייה  $(4, 0, 2, 1, 1)$ , היא פתרון של המערכת הנתונה.  
 ד. לכל  $a$  ממשי, החמישייה  $(4a, 0, 2a, 0, 0)$  אינה פתרון של המערכת הנתונה.  
 ה. החמישייה  $(4t - 2s, -t + s, 0, t, s)$ , היא פתרון כללי של המערכת ההומוגנית המתאימה.  
 ו. החמישייה  $(0, 1, 0, 1, 2)$ , היא פתרון פרטי של המערכת ההומוגנית המתאימה.  
 ז. במערכת הנתונה, מספר המשוואות לאחר דירוג הוא 2.

$$(5) \quad \begin{cases} 3x + my = 0 \\ mx + 2y - mz = 0 \\ -x + mz = 0 \end{cases}$$

יהי  $W$  אוסף הפתרונות של המערכת.  
 עבור אילו ערכים של הקבוע  $m$  (אם בכלל)  $W$  הוא:  
 א. נקודה (מצאו נקודה זו).  
 ב. ישר (מצאו ישר זה).  
 ג. מישור (מצאו מישור זה).

$$(6) \quad \text{נתונה המטריצה } A = \begin{pmatrix} 1 & 2 & 3 & 4 \\ 2 & a & b & c \\ 4 & d & e & f \\ -3 & g & h & i \end{pmatrix}$$

נסמן ב- $A'$  את הצורה המדורגת של  $A$ .  
 ידוע כי בממ"ל ההומוגנית המתאימה יש יותר משתנים חופשיים ממשתנים תלויים.  
 מצאו את  $A$ .

## תשובות סופיות

- (1) פתרון כללי של המערכת  $(4 - \frac{3}{2}t, -\frac{1}{2}t + 2, t)$ .
- פתרון כללי של המערכת ההומוגנית המתאימה הוא  $(-\frac{3}{2}t, -\frac{1}{2}t, t)$ .
- (2) למערכת פתרון יחיד  $(x, y, z) = (1, 1, 2)$ .
- למערכת ההומוגנית המתאימה פתרון יחיד  $(0, 0, 0)$ .
- (3) א.  $m = -3$     ב.  $k = -2$     ג. פתרון כללי של המערכת  $(x, y, z) = (t, t - 1, t)$ .
- פתרון כללי של המערכת ההומוגנית המתאימה הוא  $(t, t, t)$ .
- (4) א. הטענה לא נכונה.    ב. הטענה נכונה.    ג. הטענה לא נכונה.  
ד. הטענה לא נכונה.    ה. הטענה נכונה.    ו. הטענה לא נכונה.  
ז. הטענה לא נכונה.
- (5) א.  $m \neq 0, -2, 3$ . הנקודה היא  $(x, y, z) = (0, 0, 0)$ .
- ב. אם  $m = 0$  נקבל ישר  $\underline{x} = t(0, 0, 1)$  אם  $m = 2$  נקבל ישר  $\underline{x} = t(2, -1, 1)$ ,
- אם  $m = 3$  נקבל ישר  $\underline{x} = t(3, -3, 1)$ .
- ג. אין ערכים של  $m$  עבורם נקבל מישור.

$$A = \begin{pmatrix} 1 & 2 & 3 & 4 \\ 2 & 4 & 6 & 8 \\ 4 & 8 & 12 & 16 \\ -3 & -6 & -9 & -12 \end{pmatrix} \quad (6)$$