

כימיה אורגנית לביולוגים 20282

פרק 12 - ספקטרוסקופיה

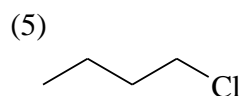
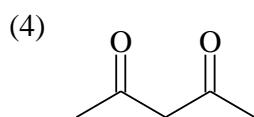
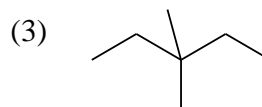
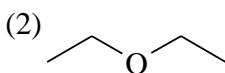
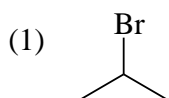
תוכן העניינים

1. כללי..... 1

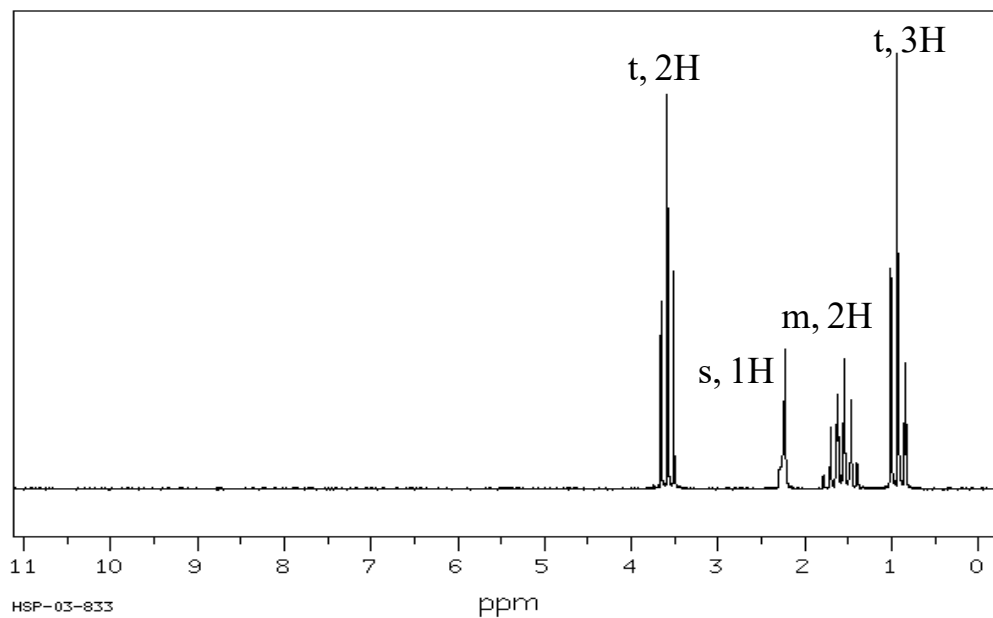
ספקטרוסקופיה:

שאלות:

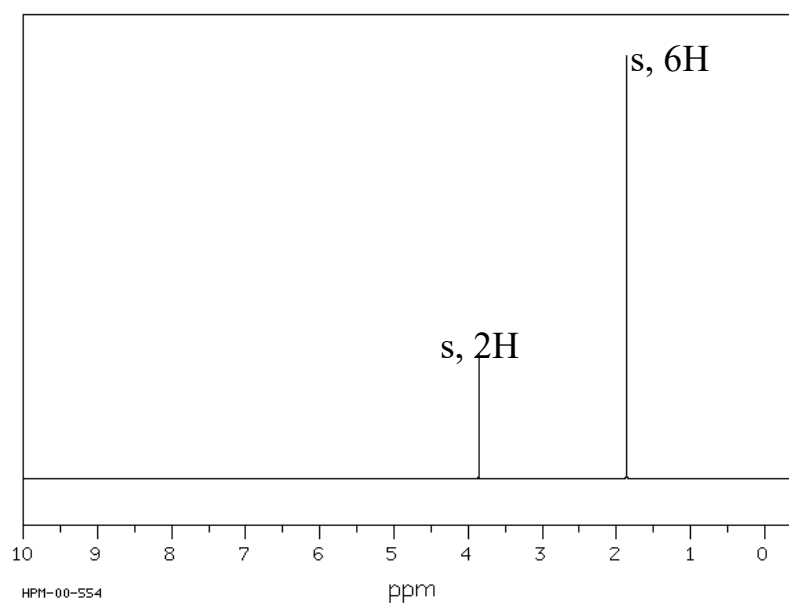
- (1) בספקטרום IR, הקשר C-H באלדהיד בולע בטווח $2700-2800\text{ cm}^{-1}$. מהו טווח אורכי הגל של האור הנבלע? מה אנרגיית הפוטון בעל אורכי גל אלו?
- (2) תדירות הרזוננס של המימן בכלורופורם, CHCl_3 , היא 1456 Hz בשדה נמוך יותר מ-TMS במכשיר 200 MHz .
 א. מה ההיסט הכימי (δ) של מימן זה?
 ב. אם המדידה היתה נעשית במכשיר 600 MHz , מה היה ההיסט הכימי?
 מה תהיה תדירות הרזוננס של מימן הכלורופורם יחסית לזו של ה-TMS?
- (3) עבור התרכובות הבאות זהו כמה סוגי סיגנלים צפויים בספקטרום $^1\text{H NMR}$ שלהם, סדרו אותם לפי גודל ההיסט הכימי וזהו מהו סוג הסיגנל (סינגלט, דובלט, ...).



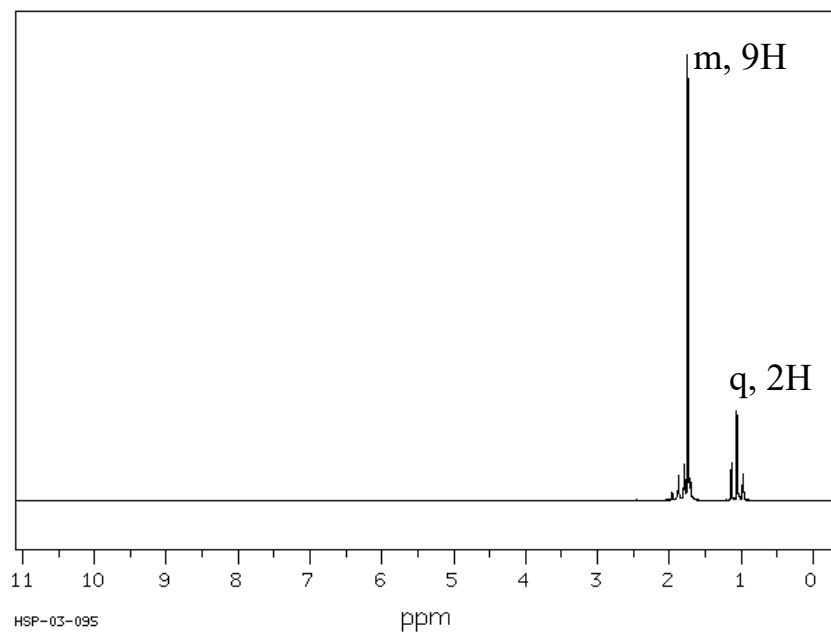
4) זהה את האיזומר של התרכובת בעלת הנוסחה המולקולרית C_3H_8O לפי ספקטרום ה- 1H NMR הבא:



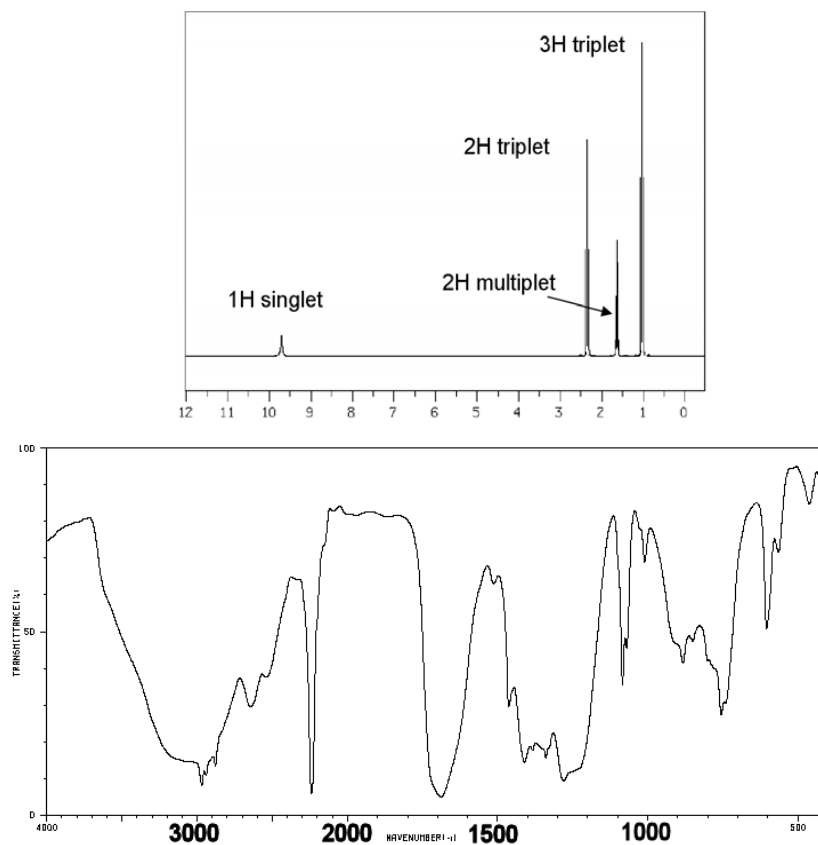
5) זהה את האיזומר של התרכובת בעלת הנוסחה המולקולרית $C_4H_8Br_2$ לפי ספקטרום ה- 1H NMR הבא:



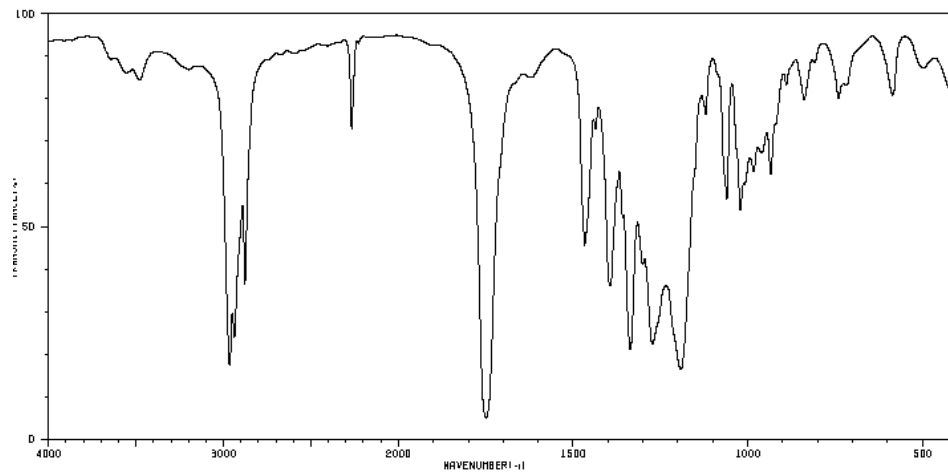
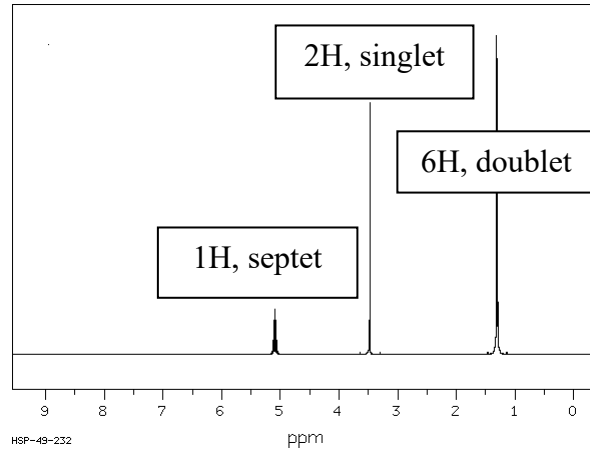
6) זהה את האיזומר של התרכובת בעלת הנוסחה המולקולרית $C_5H_{11}Br$ לפי ספקטרום ה- 1H NMR הבא:



7) הנוסחה המולקולרית של תרכובת אורגנית מסוימת היא $C_6H_8O_2$. מהו מבנה התרכובת שמתאים לנתונים הספקטראליים הבאים. נמק.



- 8) הנוסחה המולקולרית של תרכובת אורגנית מסוימת היא $C_6H_9NO_2$. מהו מבנה התרכובת שמתאים לנתונים הספקטראליים הבאים:



9) מהו מבנה התרכובת שמתאים לנתונים הספקטראליים הבאים:

