

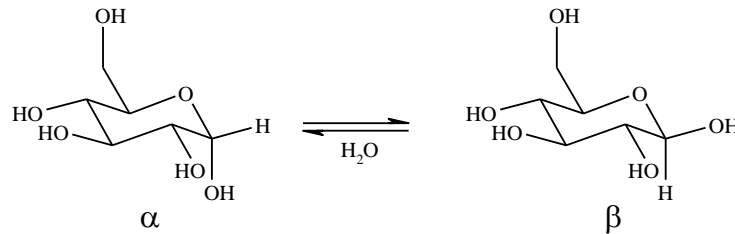
כימיה אורגנית ב

פרק 5 - סוכרים

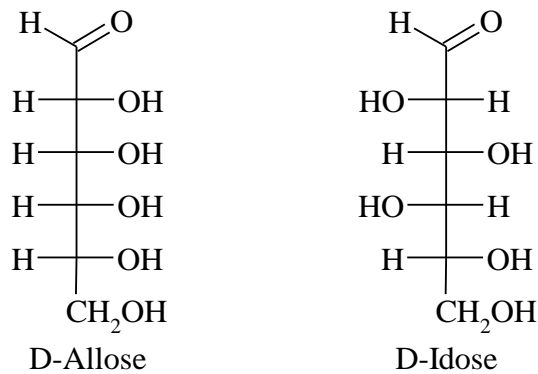
תוכן העניינים

1. כללי..... 1

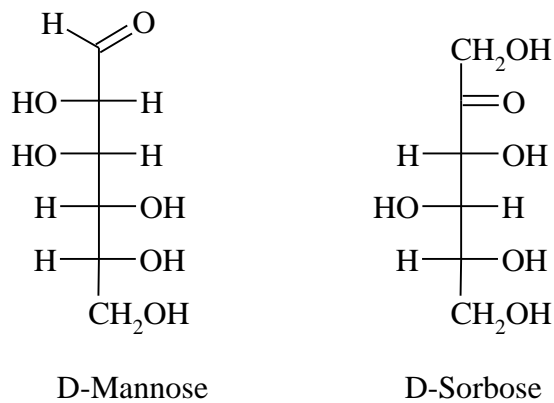
3) פרט מנגנון מוטרוטציה של D-glucopyranose מאנומר α ל- β .



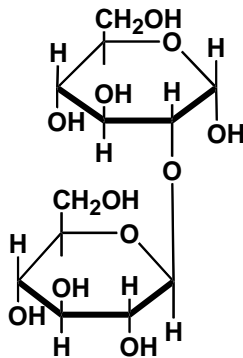
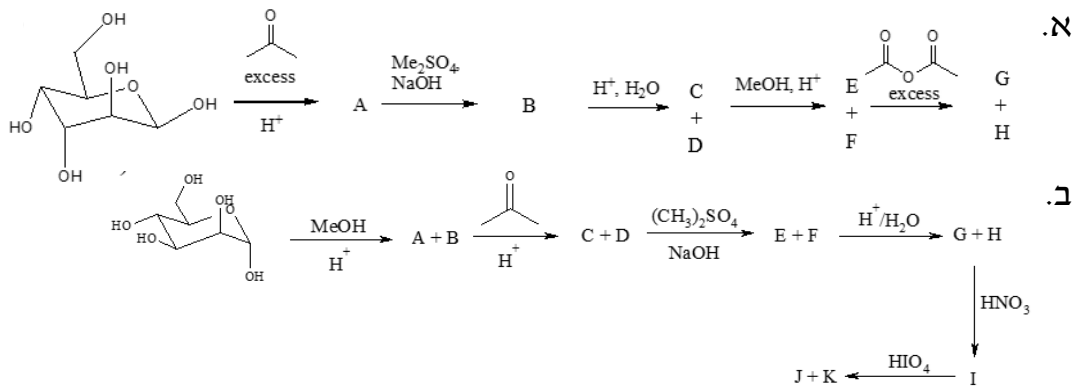
4) הציעו ריאקציה כימית שתאפשר להבחין בין D-Allose לבין D-Idose באמצעות מדידת פעילות אופטית.



5) רשמו את תוצרי התגובה האפשריים של הסוכרים הבאים עם MeOH בסביבה חומצית (D-Mannose נותן פיראנוז, ו-D-sorbose נותן פוראנוז).



6) השלימו את הסכימה הבאות:



7) נתונה נוסחת המבנה של Sophorose.

- האם זהו חד, דו או רב-סוכר?
- אפיינו את הקשר הגליקוזידי בו.
- האם רשומה צורת α או β של הסופרוז?
- האם ניתן יהיה לחזר את הסופרוז במחזרים ספציפיים לאלדהיד?
- כמה פחמנים אסימטריים יש בסופרוז?

8) זהה את הדיסכרידים הבאים:

- בהידרוליזה חומצית של סוכרוז וטוראנוז מתקבלת מולקולה אחת של אלדוהקסוז ומולקולה אחת של קטוהקסוז.
- בהידרוליזה חומצית של סלוביאוז מקבלים אותו אלדוהקסוז, בעוד שלקטוז ניתן שתי אלדוהקסוזות שונות.
- לקטוז, טוראנוז סלוביאוז הינם דיסכרידים מחזרים.

