

אינפי 2

פרק 2 - נושאים מתקדמים - הצגה פולרית של פונקציה

תוכן העניינים

1. קואורדינטות קוטביות..... 1
2. הנגזרת ושימושיה..... 3
3. שימושי האינטגרל המסוים..... 4
- 4.....

קואורדינטות קוטביות

שאלות

(1) ענו על הסעיפים הבאים :

א. המירו את הנקודה הקוטבית $\left(4, \frac{\pi}{3}\right)$ לנקודה קרטזית.

ב. המירו את הנקודה הקרטזית $(-1, -1)$ לנקודה קוטבית.

(2) ענו על הסעיפים הבאים :

א. המירו את הנקודה הקוטבית $\left(10, -\frac{\pi}{3}\right)$ לנקודה קרטזית.

ב. המירו את הנקודה הקרטזית $(0, -4)$ לנקודה קוטבית.

ג. המירו את הנקודה הקרטזית $(-2, 2)$ לנקודה קוטבית.

(3) ענו על הסעיפים הבאים :

א. המירו את המשוואה $4x - x^2 = 1 + xy$ לקואורדינטות קוטביות.

ב. המירו את המשוואה $r = -4\cos\theta$ לקואורדינטות קרטזיות.

(4) ענו על הסעיפים הבאים :

א. המירו את המשוואה $x^2 + y^2 = 4y$ לקואורדינטות פולריות.

ב. המירו את המשוואה $x = 10$ לקואורדינטות פולריות.

ג. המירו את המשוואה $y = 4$ לקואורדינטות פולריות.

(5) ענו על הסעיפים הבאים :

א. המירו את המשוואה $r = 4$ לקואורדינטות קרטזיות.

ב. המירו את המשוואה $\theta = \pi/4$ לקואורדינטות קרטזיות.

ג. המירו את המשוואה $r = 2\cos\theta + 4\sin\theta$ לקואורדינטות קרטזיות.

ד. המירו את המשוואה $6r^3 \sin\theta = 4 - \cos\theta$ לקואורדינטות קרטזיות.

תשובות סופיות

$$(1) \quad (x, y) = (2, 2\sqrt{3}) \text{ א.} \quad (r, \theta) = \left(\sqrt{2}, \frac{5\pi}{4}\right) \text{ ב.}$$

$$(2) \quad (x, y) = (5, -5\sqrt{3}) \text{ א.} \quad (r, \theta) = \left(4, \frac{3\pi}{2}\right) \text{ ב.} \quad (r, \theta) = \left(\sqrt{8}, \frac{3\pi}{4}\right) \text{ ג.}$$

$$(3) \quad 4r \cos \theta - r^2 \cos^2 \theta = 1 + r \cos \theta \cdot r \sin \theta \text{ א.} \quad (x+2)^2 + y^2 = 2^2 \text{ ב.}$$

$$(4) \quad r = 4 \sin \theta \text{ א.} \quad r \cos \theta = 10 \text{ ב.} \quad r \sin \theta = 4 \text{ ג.}$$

$$(5) \quad x^2 + y^2 = 4^2 \text{ א.} \quad y = x \text{ ב.} \quad (x-1)^2 + (y-2)^2 = 5 \text{ ג.}$$

$$(6) \quad 6(\sqrt{x^2 + y^2})^3 \cdot y = 4\sqrt{x^2 + y^2} - x \text{ ד.}$$

הנגזרת ושימושיה

שאלות

(1) מצאו את משוואת המשיק לעקום $r = 3 + 8\sin \theta$ בנקודה $\theta = \frac{\pi}{6}$.

(2) מצאו את משוואת המשיק לעקום $r = 1 - 2\sin \theta$ בראשית הצירים.

תשובות סופיות

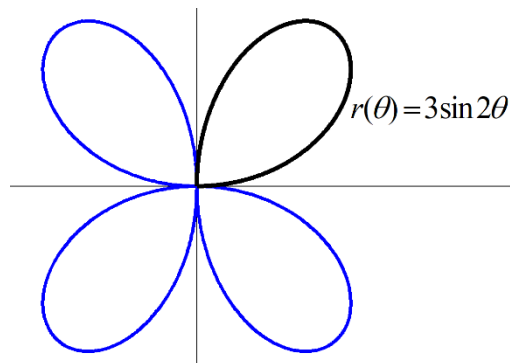
$$y = \frac{11\sqrt{3}}{5}x - \frac{98}{5} \quad (1)$$

$$y = \frac{\sqrt{3}}{3}x, \quad y = -\frac{\sqrt{3}}{3}x \quad (2)$$

שימושי האינטגרל המסוים

שאלות

- (1) חשבו את השטח של הלולאה הפנימית של $r = 2(1 + 2\cos\theta)$.
- (2) חשבו את השטח הכלוא בתוך $r = 6 + 4\cos\theta$ ומשמאל לציר ה- y .
- (3) חשבו את השטח הכלוא בתוך $r = 3 + 2\sin\theta$.
- (4) חשבו את השטח המוגבל בתוך $r = 3 + 2\sin\theta$ ומחוץ ל- $r = 2$.
- (5) חשבו את השטח המוגבל בתוך $r = 2$ ומחוץ ל- $r = 3 + 2\sin\theta$.
- (6) חשבו את השטח המוגבל בתוך $r = 2$ ובתוך $r = 3 + 2\sin\theta$.
- (7) חשבו את השטח הכלוא בתוך המעגל $r = 2\sin\theta$ ומחוץ למעגל $r = 1$.
- (8) מצאו את אורך הקרדיואידה $r = 1 + \cos\theta$.
- (9) מצאו את האורך של עלה אחד של הוורד $r = 3\sin 2\theta$.
אין צורך לחשב את האינטגרל!



- (10) מצאו את אורך העקום $r = \theta$, כאשר $0 \leq \theta \leq 1$.
- (11) העקום $r = \cos\theta$, כאשר $0 \leq \theta \leq \frac{\pi}{2}$, מסתובב סביב ציר ה- x .
מהו שטח המעטפת של הגוף הנוצר?

(12) העקום $r = 4 + 4\sin\theta$, כאשר $-\frac{\pi}{2} \leq \theta \leq \frac{\pi}{2}$, מסתובב סביב ציר ה- y .
 מהו שטח המעטפת של הגוף הנוצר?

תשובות סופיות

$$S = 4\pi - 6\sqrt{3} = 2.174 \quad (1)$$

$$S = 22\pi - 48 \quad (2)$$

$$S = 11\pi \quad (3)$$

$$S = \frac{11\sqrt{3}}{2} + \frac{14\pi}{3} = 24.187 \quad (4)$$

$$S = \frac{11\sqrt{3}}{2} - \frac{7\pi}{3} = 2.196 \quad (5)$$

$$10.37 \quad (6)$$

$$S = \frac{\pi}{3} + \frac{\sqrt{3}}{2} \quad (7)$$

$$8 \quad (8)$$

$$\ell = 3 \int_0^{\frac{\pi}{2}} \sqrt{1 + 3\cos^2 2\theta} d\theta \quad (9)$$

$$\ell = \frac{\sqrt{2} + \ln(\sqrt{2} + 1)}{2} \quad (10)$$

$$S_x = \pi \quad (11)$$

$$S_y = 102.4\pi \quad (12)$$

נספח - גרפים נפוצים בקואורדינטות פולריות

קווים

$$(1) \quad r \cos \theta = a \quad - \text{ הישר } x = a$$

$$(2) \quad r \sin \theta = b \quad - \text{ הישר } y = b$$

$$(3) \quad \theta = \beta \quad - \text{ הישר העובר דרך הראשית } y = (\tan \beta)x$$

מעגלים

$$1. \quad r = a \quad - \text{ מעגל שמרכזו בראשית הצירים ורדיוסו } a$$

$$2. \quad r = 2a \cos \theta \quad - \text{ מעגל שמרכזו בנקודה } (a, 0) \text{ ורדיוסו } |a|$$

$$3. \quad r = 2b \sin \theta \quad - \text{ מעגל שמרכזו בנקודה } (0, b) \text{ ורדיוסו } |b|$$

$$4. \quad r = 2a \cos \theta + 2b \sin \theta \quad - \text{ מעגל שמרכזו בנק' } (a, b) \text{ ורדיוסו } \sqrt{a^2 + b^2}$$

קרדיוודות ולמניסקטות

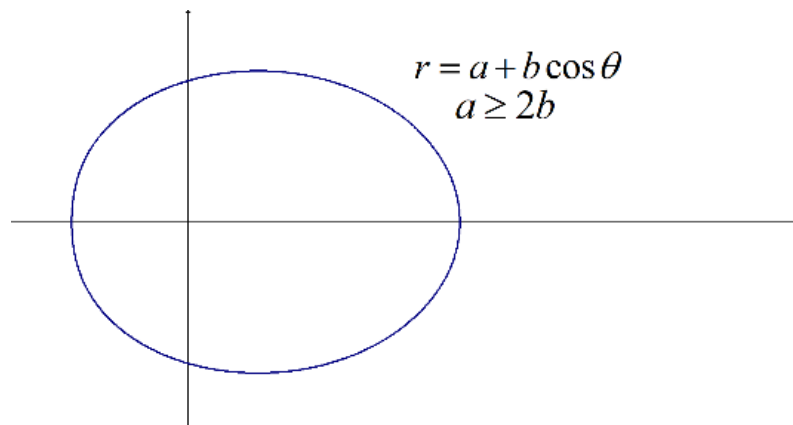
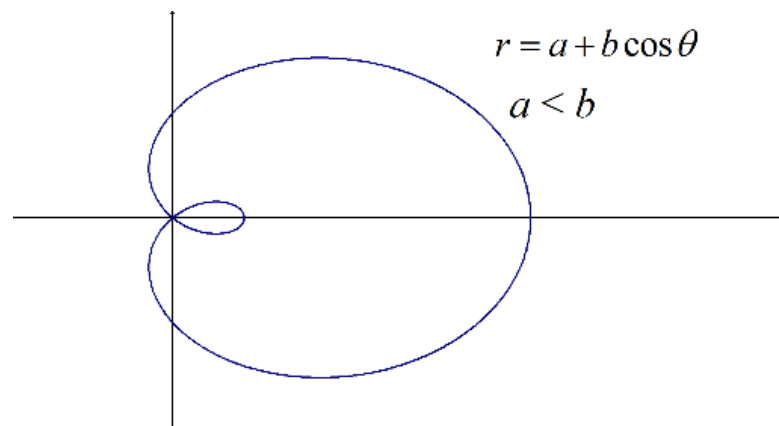
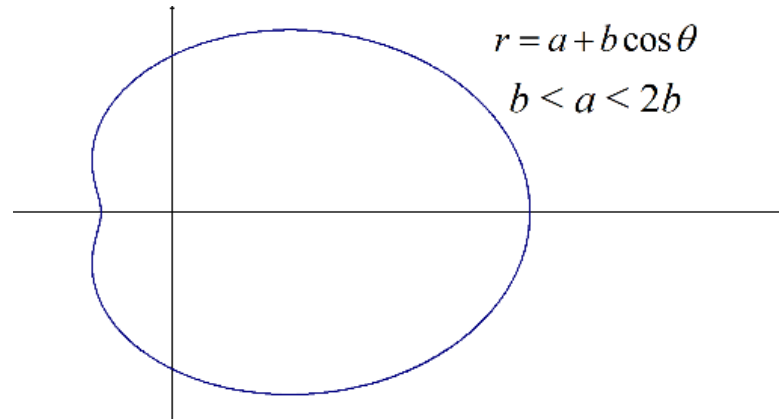
$$(1) \quad \text{קרדיוודות } r = a \pm a \cos \theta, r = a \pm a \sin \theta : \\ \text{גרף בצורת לב שמכיל את הראשית.}$$

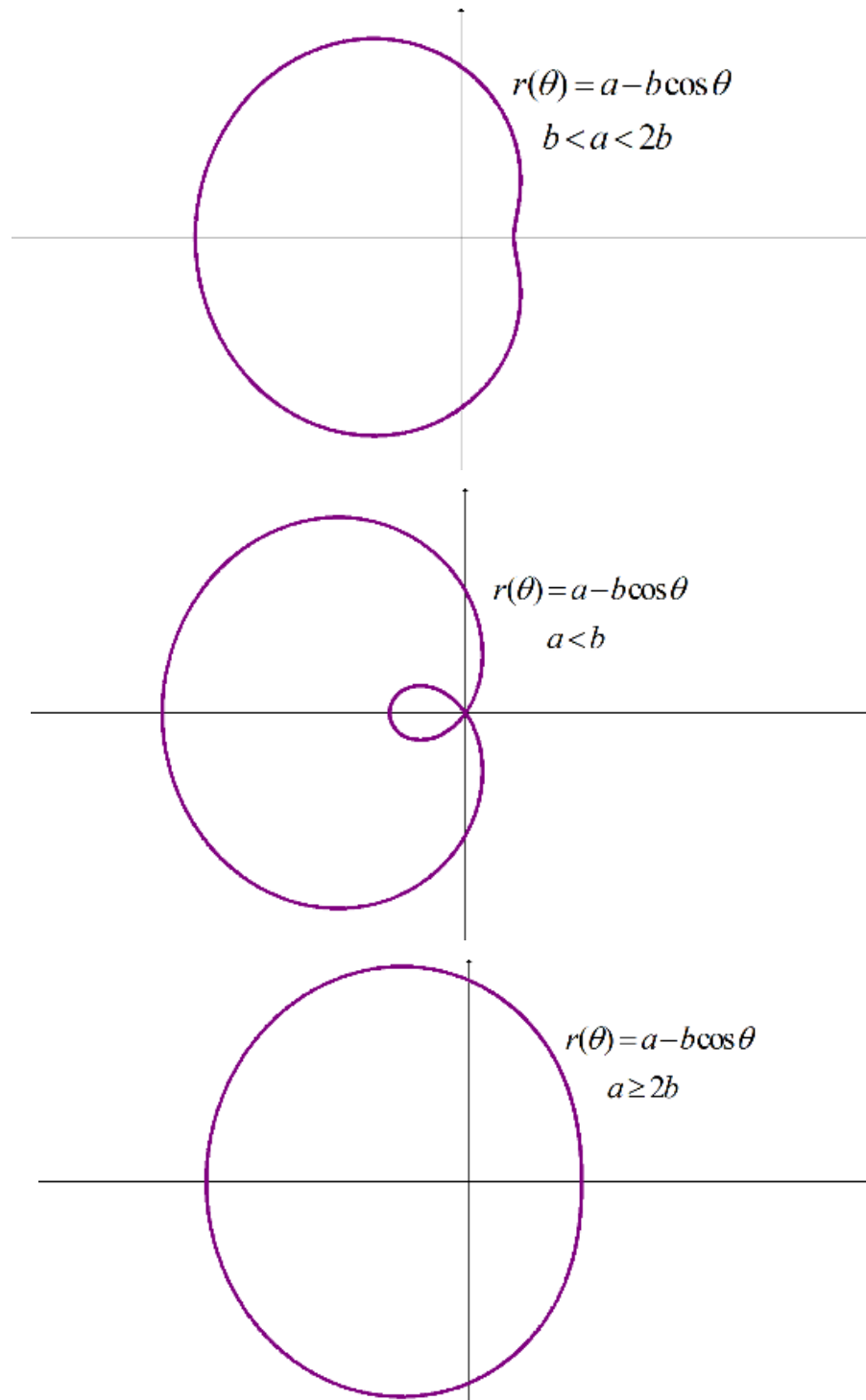
$$(2) \quad \text{למניסקטות עם לולאה פנימית } r = a \pm b \cos \theta, r = a \pm b \sin \theta \text{ : } (a < b) : \\ \text{גרף שיכיל לולאה פנימית ושתמיד יכיל את הראשית.}$$

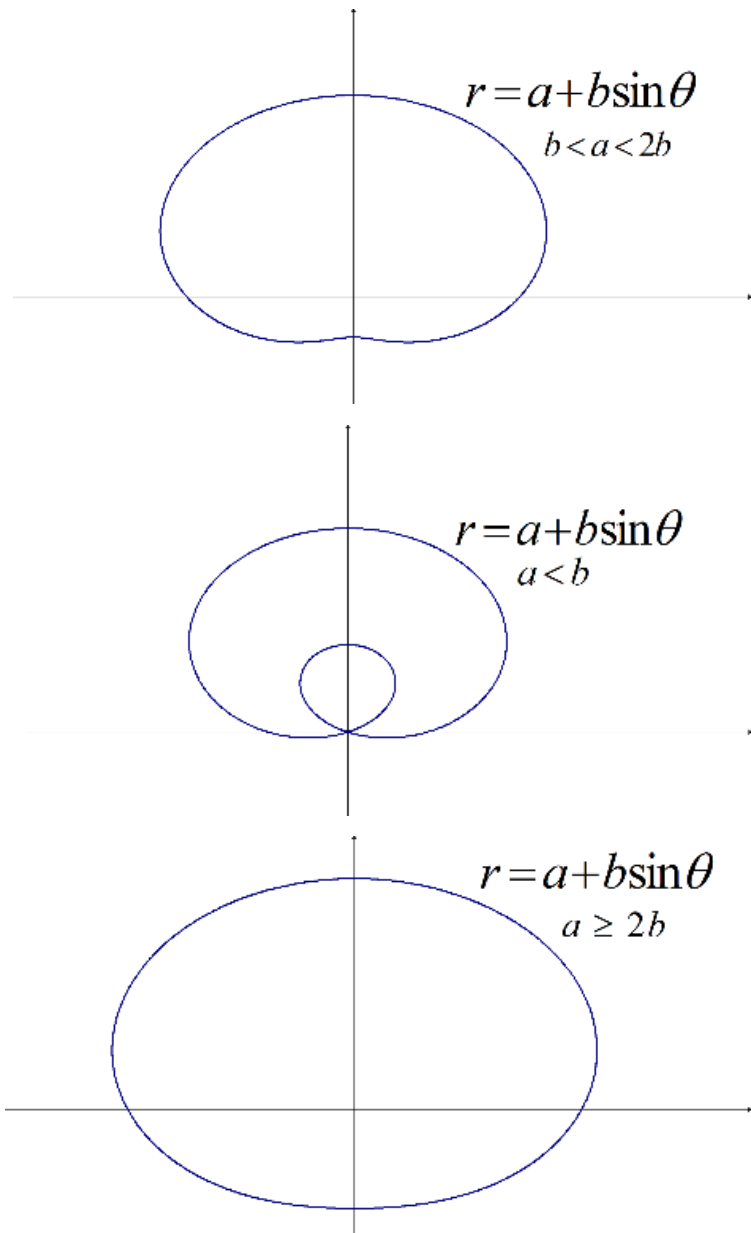
$$(3) \quad \text{למניסקטות ללא לולאה פנימית } r = a \pm b \cos \theta, r = a \pm b \sin \theta \text{ : } (a > b) : \\ \text{גרף ללא לולאה פנימית שאינו מכיל את הראשית.}$$

$$* \text{ נשרטט בדרך כלל עבור מחזור שלם } 0 \leq \theta \leq 2\pi$$

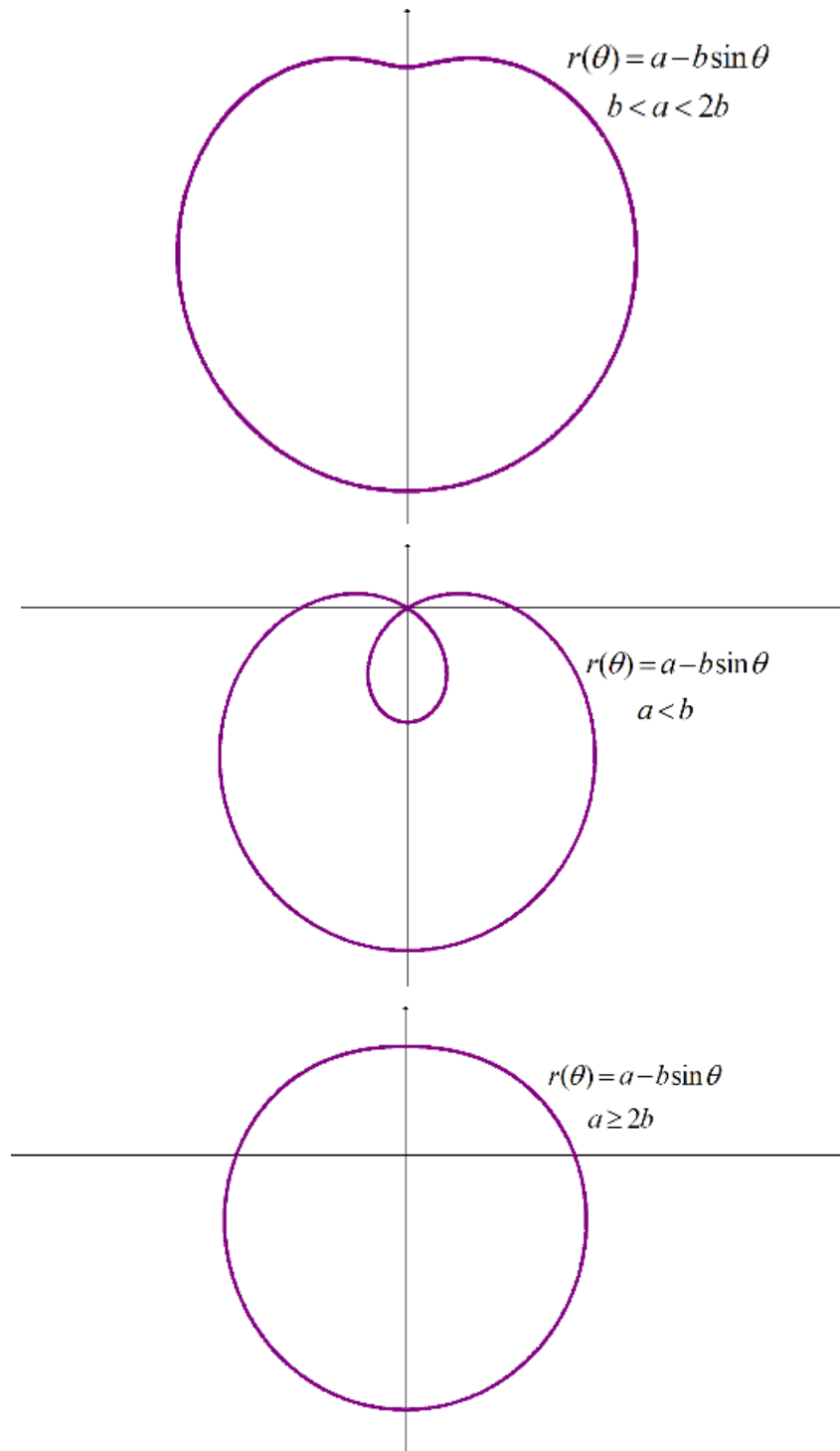
למינסקטות ביתר פירוט

 הגרף של $r = a + b \cos \theta$:


הגרף של $r = a - b \cos \theta$ 

הגרף של $r = a + b \sin \theta$ 

הגרף של $r = a - b \sin \theta$



גרפים נפוצים נוספים

