

קורס הכנה בכימיה

פרק 1 - מבנה האטום

תוכן העניינים

1. המודל הגרעיני של האטום 1
2. ספקטרום אטומי בחלקיקים חד-אלקטרוניים 5
3. מבנה של אטומים מרובי אלקטרוניים 8
4. תכונות מחזוריות של אטומים 13

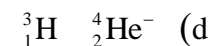
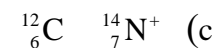
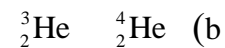
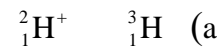
המודל הגרעיני של האטום

שאלות

1) ליון $^{127}_{52}\text{Te}^{2-}$:

- א. מספר מסה 50.
 ב. 127 פרוטונים בגרעין.
 ג. 127 חלקיקים בגרעין.
 ד. 50 פרוטונים.

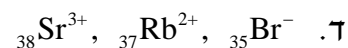
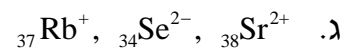
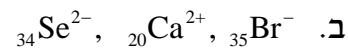
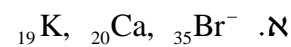
2) מי מהזוגות הבאים מהווים איזוטופים?



- א. b בלבד.
 ב. a ו-d.
 ג. a ו-c.
 ד. a ו-b.

3) בחר את הסעיף שבו מופיעים צורונים בעלי אותו מספר האלקטרונים כמו של

אטום קריפטון $^{36}_{36}\text{Kr}$:



4) מהי השורה הנכונה מבין הבאות?

מספר אלקטרונים	מספר נייטרונים	מספר פרוטונים	סמל	
34	45	34	$^{34}_{34}\text{Se}$	א.
38	50	40	$^{88}_{38}\text{Sr}^{2+}$	ב.
18	16	15	$^{18}_{18}\text{Ar}$	ג.
86	210	85	$^{210}_{85}\text{At}^-$	ד.

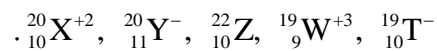
5) לאטום מיונן של יסוד מסוים, X^{2+} , יש 24 אלקטרונים ו-30 נויטרונים. איזו טענה נכונה:

- א. מספרו האטומי 24 ומספר המסה 54.
- ב. מספרו האטומי 54 ומספר המסה 24.
- ג. מספרו האטומי 56 ומספר המסה 26.
- ד. מספרו האטומי 26 ומספר המסה 56.

6) להלן שלושה חלקיקים: ${}_{12}^{24}Z^+$, ${}_{11}^{24}Y^+$, ${}_{11}^{23}X^+$. אילו טענות נכונות:

- א. Z^+ ו- Y^+ הם איזוטופים של אותו יסוד.
- ב. ל- Z^+ ו- Y^+ אותו מספר אלקטרונים.
- ג. ל- Z^+ ו- Y^+ אותו מספר נייטרונים.
- ד. ל- Z^+ ו- X^+ אותו מספר נייטרונים.
- ה. Y^+ ו- X^+ הם איזוטופים של אותו יסוד.

7) נתונים חמישה צורנים שסומנו באופן שרירותי באותיות הבאות:



- א. אילו מבין הצורנים הנתונים הם איזוטופים?
- ב. לאיזה צורן מספר האלקטרונים הוא הגדול ביותר?
- ג. לאיזה צורן מספר הנייטרונים הוא הגדול ביותר?

8) בטבלה הבאה נתונים חמישה חלקיקים של יסודות:

מספר אלקטרונים	מספר נייטרונים	מספר פרוטונים	חלקיק
10	12	10	A
10	12	12	B
16	16	16	C
18	18	17	D
18	18	16	E

- א. מהו המטען החשמלי של כל חלקיק?
- ב. האם ישנם איזוטופים בטבלה?

- 9) לפחמן (C) ישנם שלושה איזוטופים יחסית יציבים. מהי הקביעה הלא נכונה:
- כל האיזוטופים של פחמן בעלי מטען גרעיני שווה.
 - באיזוטופים של פחמן מספר האלקטרונים יכול להיות שונה ממספר הפרוטונים.
 - לכל האיזוטופים של פחמן אותו מספר מסה.
 - לכל האיזוטופים של פחמן אותו מספר אטומי.

10) בטבלה הבאה נתון ההרכב הגרעיני של החלקיקים הבאים:

החלקיק	A^{-2}	B^{-}	C	D^{+}	E
מספר פרוטונים	13	12	10	13	11
מספר נייטרונים	11	12	11	12	14

התייחסו לכל אחד מהמשפטים הבאים וציינו האם הוא נכון או לא. נמקו.

- ל-E ו- A^{-2} אותו מספר האלקטרונים.
- ל- B^{-} ו- D^{+} אותו מספר האלקטרונים.
- ל-E מספר המסה הגדול ביותר.
- ד. A^{-2} ו-C הם איזוטופים.
- ה. A^{-2} ו- D^{+} הם איזוטופים.

11) נתונים החלקיקים הבאים:

החלקיק	מספר האלקטרונים	מספר המסה
A^{-2}	9	19
B^{+}	6	16
C^{3+}	9	22
D^{3+}	10	22

ציינו את ההיגד(ים) הנכון(ים):

- A^{-2} ו- C^{3+} הם איזוטופים.
- מטען הגרעין של C^{3+} זהה לזה של D^{3+} .
- ג. C^{3+} ו- D^{3+} הם איזוטופים.
- ד. A^{-2} ו- B^{+} הם איזוטופים.

תשובות סופיות

- (1) ג
- (2) ד
- (3) ג
- (4) א
- (5) ד
- (6) ד, ה.
- (7) א. T^- , Z, X^{+2} ב. Y^- ג. Z
- (8) א. $A:0$, $B:+2$, $C:0$, $D:-1$, $E:-2$ ב. כן, C ו-E. ג. A
- (9) ג
- (10) ה
- (11) ד

ספקטרום אטומי בחלקיקים חד-אלקטרוניים

שאלות

- (1) חשבו את האנרגיה הדרושה לעירור האלקטרון באטום מימן מרמת היסוד לרמת האנרגיה $n = 8$.
- (2) מהו אורך הגל של הפוטון, שייפלט כשאלקטרון יורד מרמה $n = 4$ לרמת היסוד ביון גזי C^{+5} ?
- (3) חשבו את אנרגיית היינון (ביחידות J/mol) ממצב היסוד, עבור היונים Li^{2+} ו- He^+ .
- (4) ענו על הסעיפים הבאים:
- א. ביון He^+ מעורר האלקטרון יורד מרמת האנרגיה $n = 6$ לרמת היסוד. חשבו את אורך הגל של הפוטון באנגסטרם.
- ב. פוטון באורך גל של 218.1 \AA נקלט על ידי היון He^+ . כתוצאה מכך He^+ הופך ל- He^{2+} , והאלקטרון הנפלט ממשיך לנוע. מהי האנרגיה הקינטית של האלקטרון הנפלט?
- (5) סדרת הקווים הראשונה בתחום האינפרא-אדום, בספקטרום אטומי מימן, נקראת סדרת פֶּשֶׁן. אחד הקווים של סדרה זו מופיע באורך גל של 1094 nm . מאיזו רמת אנרגיה בוצע המעבר?
* סדרת פֶּשֶׁן (Paschen Series) מראה את המעברים לרמת האנרגיה השלישית מרמות גבוהות יותר.
- (6) ענו על הסעיפים הבאים:
- א. מהם ערכי האנרגיה עבור ארבע רמות האנרגיה הראשונות בחלקיק Li^{+2} ?
- ב. מצאו את אורך הגל המתאים לעירור של יוני Li^{+2} , מרמת היסוד לרמה $n = 4$.
- ג. יוני Li^{+2} , המעוררים ל- $n = 4$, דועכים לרמות האנרגיה נמוכות יותר, תוך פליטת פוטונים.
1. כמה קווים ספקטראליים מתקבלים בדעיכה?
2. איזה קו ספקטראלי, מאלו שנמצאו ב-1, בעל אורך הגל הקצר ביותר? האם העין תוכל להבחין באור שנפלט, אם נתון שאורכי גל הנמצאים בתחום של האור הנראה הם בטווח של $300\text{nm} - 700\text{nm}$.

- (7) אטום מימן ברמת היסוד בולע פוטון בעל אורך הגל של 97.2 nm , ואחר כך פולט פוטון בעל אורך הגל 486 nm .
מה מספר רמת האנרגיה הסופית בה נמצא האלקטרון?
- (8) חלקיק דמוי מימן במצב היסוד בולע פוטונים באורכי-גל (nm): 4.8, 2.54, 1.8.
נתון שרק פוטון אחד מבין פוטונים אלה גרם לעירורו, ואילו שאר הפוטונים גרמו לפליטת האלקטרון מהיון הזה. אחד מן הפוטונים שגרם לפליטת האלקטרון הקנה לו מהירות מסוימת, ואילו הפוטון השני הביא לעקירת האלקטרון בלבד.
א. איזה פוטון גרם לעירור האלקטרון? נמקו.
ב. 1. איזה פוטון גרם לעקירת האלקטרון? נמקו.
2. מהו מטען היון שהתקבל, כתוצאה מעקירת האלקטרון?
ג. חשבו את מהירות תנועת האלקטרון עקב בליעת הפוטון המתאים.
- (9) נתון יון דמוי מימן שהאלקטרון שלו מצוי ברמה מעוררת n .
אנרגיית היינון של היון מן הרמה המעוררת היא 7.65 eV .
הקרנה באור עם תדירות של $6.65 \cdot 10^{14} \text{ Hz}$ גורמת למעבר לרמה המעוררת $n+1$.
חשבו את הרמה n . האם היון הוא Li^{2+} או He^+ ?
- (10) פוטונים שנפלטו מאדי כספית הם בעלי אורך גל של 3130 \AA .
הפוטונים פוגעים בשופרת המכילה גז של יוני $\text{Li}_{(g)}^{+2}$ במצב היסוד.
האם תיתכן פליטת האלקטרונים מיוני $\text{Li}_{(g)}^{+2}$? במידה וכן, הסבירו.
במידה ולא, חשבו באיזו רמה מעוררת חייבים יוני $\text{Li}_{(g)}^{+2}$ להימצא, כדי לקבל את פליטת האלקטרונים מהם.

תשובות סופיות

- (1) 13.388 eV
- (2) 2.7nm
- (3) $\text{He}^+ : 523.98 \cdot 10^4 \text{J/mol}$; $\text{Li}^{2+} : 1178.96 \cdot 10^4 \text{J/mol}$
- (4) א. 234 A^0 ב. $4.02 \cdot 10^{-19} \text{ J}$
- (5) $n = 6$
- (6) א. $-7.65, -122.4, -30.6, -13.6 \text{ eV}$ ב. 10.81nm ג. 1. שישה קווים.
2. אינו נראה לעין.
- (7) $n = 2$
- (8) א. 4.8nm ב. 1. 2.54nm ג. $8.405 \cdot 10^6 \text{ m/s}$ ד. +5
- (9) $\text{Li}^{2+}, n = 4$
- (10) לא תיתכן פליטת אלקטרונים. רמת האנרגיה מספר 6.

מבנה של אטומים מרובי אלקטרונים

שאלות

1) מהן הקביעות הנכונות לגבי שלושת המספרים הקוונטיים בסעיפים הבאים?
תקנו את הקביעות הלא נכונות.

א. $n = 2, \ell = 1, m_\ell = +1$

ב. $n = 3, \ell = 3, m_\ell = -3$

ג. $n = 3, \ell = 2, m_\ell = -3$

ד. $n = 0, \ell = 0, m_\ell = 0$

2) רשמו את הערכים החסרים עבור ארבעת המספרים הקוונטיים הבאים:

א. $n = ?, \ell = 2, m_\ell = 0, m_s = ?$

ב. $n = 2, \ell = ?, m_\ell = -1, m_s = -\frac{1}{2}$

ג. $n = 4, \ell = 1, m_\ell = 2, m_s = ?$

3) כמה אלקטרונים של אטום אחד יכולים להיות בעלי המספרים הקוונטיים הבאים:

א. $n = 2, \ell = 1$

ב. $n = 4, \ell = 2, m_\ell = -2$

ג. $n = 2$

ד. $n = 3, \ell = 2, m_\ell = +1, m_s = -\frac{1}{2}$

4) איזו מתת-הרמות שלהלן יכולה להתקיים באטום:

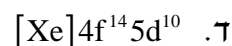
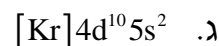
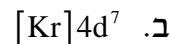
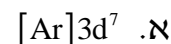
א. 2d

ב. 3f

ג. 6g

ד. 6i

5) נתונות היערכויות אלקטרוניים עבור יון X^{+2} במצב היסוד. רשמו את היערכות האלקטרוניים עבור יסוד X.

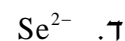
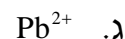
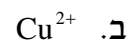
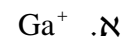


6) איזה צירוף של מספרים קוונטים מתאים לאלקטרון ערכיות (ברמה האחרונה) של אטום Br?

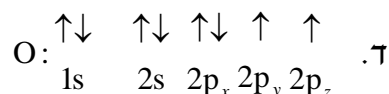
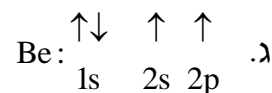
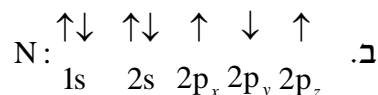
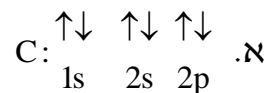
m_s	m_l	l	n	
$+\frac{1}{2}$	0	0	4	א.
$+\frac{1}{2}$	-1	1	4	ב.
$-\frac{1}{2}$	0	1	4	ג.

ד. כל התשובות נכונות.

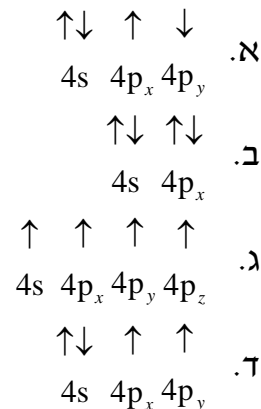
7) כתבו את היערכות האלקטרוניים במצב היסוד וציינו את מספר האלקטרוניים הלא-מזווגים עבור החלקיקים:



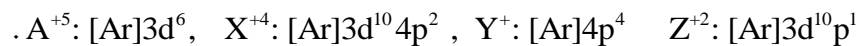
8) קבעו אם היערכויות האלקטרוניים הבאות מייצגות את מצב היסוד או את המצב המעורר של האטום:



9) להלן מספר היערכויות אפשריות של רמת הערכיות של אטום ניטרלי מסוים. מהו היסוד ואיזו היערכות מייצגת את מצב היסוד שלו?



10) נתונים ארבעה יונים בעלי הקונפיגורציות:



לאילו יונים יש אותו מספר אלקטרונים בלתי מזווגים:

- א. ל- Z^{+2} ו- A^{+5} .
- ב. ל- X^{+4} ו- Y^+ .
- ג. ל- A^{+5} ו- Y^+ .
- ד. ל- Z^{+2} ו- X^{+4} .

11) נתונות היערכויות האלקטרוניות עבור מס' חלקיקים. קבעו אילו מהם נמצאים במצב מעורר, ורשמו עבורם את ההערכות האלקטרונית שמתאימה למצב היסוד.

- א. $1s^2 2s^1 2p^3$
- ב. $1s^2 2s^2 2p^6 3s^2 3p^6 4s^1 3d^5$
- ג. $1s^2 2s^2 2p^6 3s^2 3p^5 3d^1$
- ד. $1s^2 2s^2 2p^6 3s^2 3p^6 4s^1 3d^3$

12) רשמו את הערכות האלקטרוניים עבור:

- א. Ge^{2+}
- ב. Mn^+
- ג. Ba^{2+}
- ד. Au^+

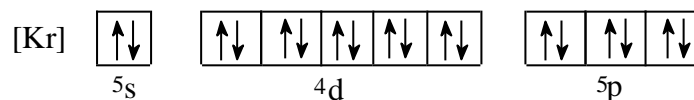
13) אילו מהקונפיגורציות הבאות לא יכולות להתקיים על פי חוק פאולי?

- א. $1s^2 2s^3 2p^3$
 ב. $1s^2 2s^2 2p^6 3s^2 3p^6 4s^2 3d^8$
 ג. $1s^2 2s^2 2p^6 3s^6$
 ד. $1s^2 2s^2 2p^6 3s^2 3p^4$
 ה. $1s^2 2s^2 2p^6 3s^2 3p^1 4s^2 3d^{14}$

14) איזה היגד נכון, לאלקטרון שיש לו את המספרים הקוונטיים $l = 2, m_l = 0$:

- א. האלקטרון חייב להימצא באורביטל $3d$.
 ב. האלקטרון יכול להימצא באורביטל $3p$.
 ג. האלקטרון יכול להימצא באחד מחמישה אורביטלי d (בעלי אנרגיה שווה) ה"פזורים" במרחב שמסביב לאטום.
 ד. האלקטרון יכול להיות שייך לאטום סידן, Ca .

15) ליסוד מסוים X יש את המערך האלקטרוני הבא:



מה ניתן ללמוד מכך על היסוד X ?

- א. ל- X יש אורביטלי d ו- f ריקים.
 ב. ביכולתו של X ליצור תרכובות יוניות עם מתכות.
 ג. X שייך לגוש d , מכיוון שאורביטל d מאוכלס באלקטרונים.
 ד. הרמה הרביעית של X **מלאה**.
 ה. ל- X מערך אלקטרוני דומה למערך האלקטרוני של Kr , ולכן שניהם שייכים לאותה "משפחה".

16) איזה מהמשפטים הבאים אינו נכון:

- א. מספר ערכי l האפשריים עבור $n=3$ שווה ל-3.
 ב. מספר האורביטלים בעלי המספרים הקוואנטים $n=3, l=1$, הוא 3.
 ג. מספר האלקטרונים המקסימלי הניתנים לאכלוס באורביטלים המאופיינים במספרים הקוואנטים $n=2, l=1$, שווה ל-3.
 ד. מספר ערכי m_l עבור $l=1$, שווה ל-3.

תשובות סופיות

- (1) א
- (2) א. $m_s = \pm \frac{1}{2}; n \geq 3$ ב. $\ell = 1$ ג. $m_\ell = -1, 0, 1; m_s = \pm \frac{1}{2}$
- (3) א. 6 ב. 2 ג. 8 ד. 1
- (4) ג
- (5) א. $[\text{Ar}]3d^7 4s^2$ ב. $[\text{Kr}]4d^7 5s^2$ ג. $[\text{Kr}]4d^{10} 5s^2 5p^2$ ד. $[\text{Xe}]4f^{14} 5d^{10} 6s^2$
- (6) ד
- (7) Ga^+ : אין אלקטרונים בלתי מזווגים ; Cu^{2+} : אלקטרון אחד בלתי מזווג ;
 Pb^{2+} : אין אלקטרונים בלתי מזווגים ; Se^{2-} : אין אלקטרונים בלתי מזווגים.
- (8) א-ג. מצב מעורר. ד. מצב היסוד.
- (9) ד ; יסוד Ge.
- (10) ב
- (11) א, ג, ד.
- (12) א. $[\text{Ar}]4s^2 3d^{10}$ ב. $[\text{Ar}]4s^1 3d^5$ ג. $[\text{Kr}]5s^2 4d^{10} 5p^6$ ד. $[\text{Xe}]5d^{10}$
- (13) א, ג, ה.
- (14) ג
- (15) א, ג.
- (16) ג

תכונות מחזוריות של אטומים

שאלות

- 1) מה לא נכון לגבי אטומי כלור וזרחן?
 א. רדיוס אטומי של כלור גדול מזה של זרחן.
 ב. אנרגיית היינון הראשונה של זרחן נמוכה מזו של כלור.
 ג. האטומים האלה שייכים לגוש p בטבלה המחזורית.
 ד. אלקטרושליליות של אטומי כלור גבוהה מזו של אטומי זרחן.
- 2) מהי הקביעה הלא נכונה לגבי גודל הצורון:
 א. $R(S^{-2}) > R(Ar)$
 ב. $R(Si^{+4}) < R(Ar)$
 ג. $R(Se^{-2}) < R(S^{-2})$
 ד. $R(Se^{-2}) > R(Ar)$
- 3) אנרגיית היינון הראשונה של רובידיום (Rb) שווה ל- 403 kJ/mol , ושל סידן (Ca) 590 kJ/mol . לכן, אנרגיית היינון הראשונה של אשלגן (K) תהיה:
 א. גבוהה מ- 590 kJ/mol .
 ב. נמוכה מ- 403 kJ/mol .
 ג. גבוהה מ- 403 kJ/mol , אך נמוכה מ- 590 kJ/mol .
 ד. לא ניתן לקבוע לפי נתוני השאלה.
- 4) הסיבות להבדל בין אנרגיית היינון של Al^+ לאנרגיית היינון של Mg^+ , היא:
 א. מספר הנייטרונים בגרעין של Al^+ גדול יותר ממספר הנייטרונים בגרעין של Mg^+ .
 ב. מטען הגרעין של Al^+ גדול ממטען הגרעין של Mg^+ .
 ג. יון Mg^+ מכיל אלקטרון s אחד, בעוד ש- Al^+ מכיל שני אלקטרונים s.
 ד. מספר האלקטרונים שמכיל Al^+ גדול ממספר האלקטרונים שמכיל Mg^+ .

- 5) איזו קביעה מבין הבאות מדגישה ביותר את יציבות אלקטרוני ה-p :
- א. הזיקה האלקטרונית של אטומי פלואור (F) גבוהה מזו של אטומי חמצן (O).
- ב. אנרגיית היינון הראשונה של חנקן (N) גבוהה מזו של אטומי זרחן (P).
- ג. אנרגיית היינון השנייה של חמצן (O) גבוהה מזו של אטומי פלואור (F).
- ד. הזיקה האלקטרונית של אטומי בריליום (Be) גבוהה מזו של אטומי בור (B).

6) סדרו את החלקיקים הבאים לפי סדר עולה של נפחם, ונמקו :

א. S, P, O, Se, As

ב. N^{-3} , F^{-} , O^{-2} , Ne

ג. K^{+} , S^{-2} , Cl^{-} , P^{-3}

7) נתונים ארבעה יסודות מהשורה השלישית במערכת המחזורית : A, B, C, D. בטבלה שלהלן רשומות אנרגיות היינון העוקבות של אטומים אלו :

A	B	C	D	יסודות אנרגיית היינון
578	496	789	738	E_1
1817	4563	1573	1451	E_2
2745	6913	3232	7733	E_3
11578	9594	4356	10541	E_4
14831	13352	16091	13629	E_5

- א. באיזה טור נמצא כל יסוד?
- ב. רשמו את המערך האלקטרוני עבור היסודות A, B, C, D.
- ג. הסבירו מדוע $E_1(D) > E_1(B)$; $E_1(D) > E_1(A)$; $E_2(D) > E_1(D)$; $E_2(B) > E_2(D)$.

10) שישה יסודות בעלי מספרים אטומיים עוקבים, סומנו באופן שרירותי באותיות U, V, W, X, Y, Z. ליסוד U המספר האטומי הקטן ביותר, וליסוד Z הגדול ביותר. בטבלה להלן מובאים אנרגיות היינון הראשונות של היסודות X, W ו-Y:

יסוד	אנרגיית היינון הראשונה, בערכי $\frac{\text{kJ}}{\text{mole}}$
W	1251
X	1521
Y	419

- א. קבעו לאיזה טור במערכה המחזורית שייך כל אחד מהיסודות מ-U עד Z.
- ב. 1. האם אנרגיית היינון של Z תהיה גבוהה מזו של Y או נמוכה ממנה? נמקו.
 2. האם אנרגיית היינון הראשונה של U תהיה גבוהה מזו של V או נמוכה ממנה? נמקו.
- ג. סדרו את היסודות U, V, W, X, Y, Z, לפי אנרגיית יינון שנייה.
- ד. סדרו את היסודות U, V, W, X, Y, Z, לפי נפח אטומי עולה.

תשובות סופיות

- (1) א
- (2) ג
- (3) ג
- (4) א, ב, ג.
- (5) ג
- (6) א. $Ne < F^- < O^{2-} < N^{3-}$.ב. $O < S < P < Se < As$.ג. $K^+ < Cl^- < S^{2-} < P^{3-}$
- (7) א. A – טור 3 ; B – טור 1 ; C – טור 4 ; D – טור 2.
 ב. $A: 1s^2 2s^2 2p^6 3s^2 3p^1$, $B: 1s^2 2s^2 2p^6 3s^1$
 $C: 1s^2 2s^2 2p^6 3s^2 3p^2$, $D: 1s^2 2s^2 2p^6 3s^2$
- (8) א.1. $L^{2+}: 1s^2 2s^2 2p^6 3s^2 3p^6 3d^2$, $X: 1s^2 2s^2 2p^6 3s^2 3p^6 4s^2 3d^{10} 4p^3$.
 א.2. $s - 4$; $p - 8$; $d - 5$
- ב.1. $X^{5+}: 1s^2 2s^2 2p^6 3s^2 3p^6 3d^{10}$, $X^{3+}: 1s^2 2s^2 2p^6 3s^2 3p^6 4s^2 3d^{10}$
 $X^{3-}: 1s^2 2s^2 2p^6 3s^2 3p^6 4s^2 3d^{10} 4p^6$
- א.2. $X^{5+} < X^{3+} < X^{3-}$
- (9) א. X – Mg; Y – P; Z – Ba; M – C; L – N; W – O; R – S
 ב. $Ba < Mg < P < S < C < N < O$.ג.1. S .2. C
- (10) א. U – טור 5 ; V – טור 6 ; W – טור 7 ; X – טור 8 ; Y – טור 1 ; Z – טור 2.
 ב.1. Z .2. גבוהה.
 ג. $Z < U < W < V < X < Y$
 ד. $X < W < V < U < Z < Y$