

# כימיה אורגנית

פרק 11 - כהלים ואתרים

תוכן העניינים

1. כללי..... 1

## כהלים ואתרים, תיאולים וסולפידים:

### שאלות:

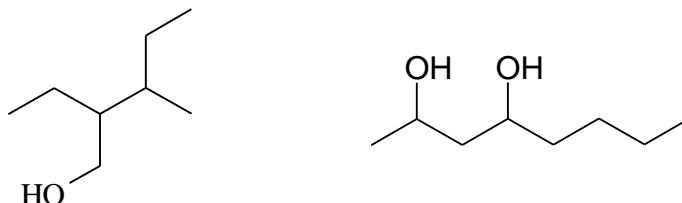
(1) ציירו את המבנים הבאים:

א. tert-butyl alcohol

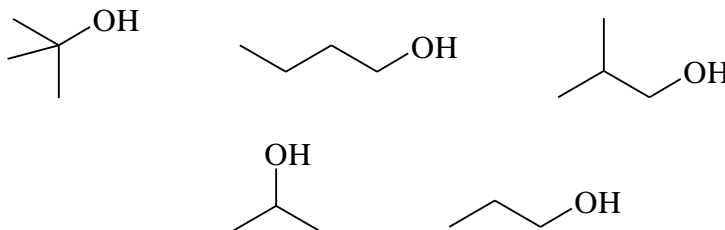
ב. 4-methyl-3-hexanol

ג. (1S, 3R)-3-methylcyclohexanol

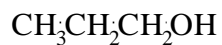
(2) תנו שמות לפי IUPAC לחומרים הבאים:



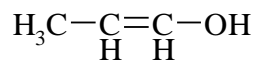
(3) סדר תרכובות לפי טמפרטורת רתיחה.



(4) איזו משתי התרכובות הבאות תהייה חומצית יותר? נמק את תשובתך ע"י שימוש בתיאוריית הרזוננס.

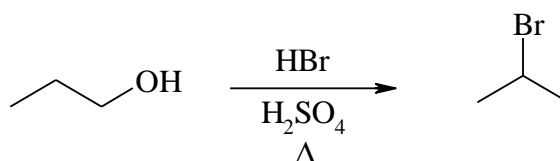


A

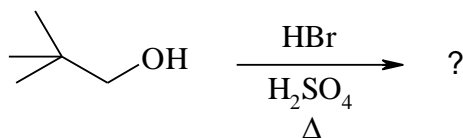


B

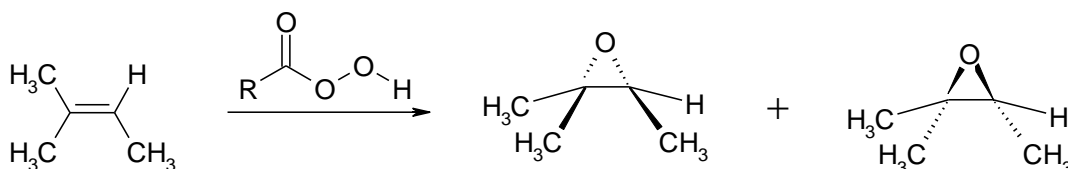
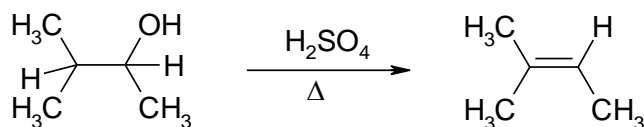
(5) מה המנגנון לריאקציה הבאה?



6) מה יהיה התוצר בתגובה הבאה? פרטו מנגנון.

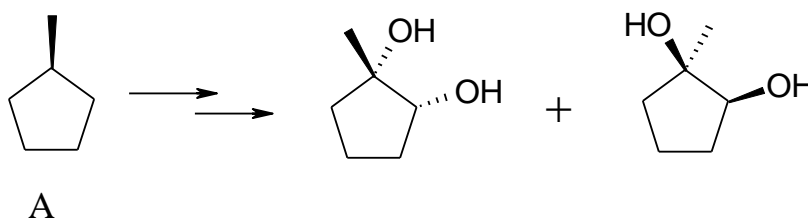


7) רשמו ליד כל אחת מהתגובות הבאות האם התרכובת עברה חימצון, חיזור אם בכלל. נמקו.

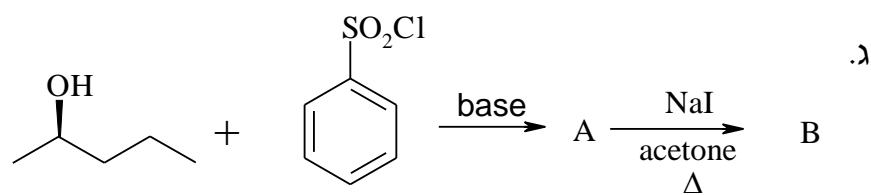
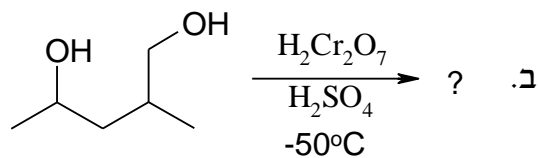
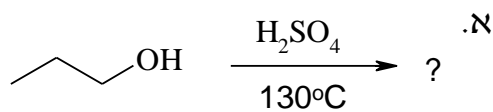


8) דיאול  $C_6H_{14}O_2$  הופך כתוצאה מתגובת אתריפיקציה אינטראמולקולרית לאתר טבעתי. מהם המבנה/ים של חומר המוצא אם ידוע:  
 א. בטבעת ישנם 5 אטומים.  
 ב. חומר המוצא והאתר הנוצר הם תרכובות כיראליות.  
 ג. חימצון הדיאול גורם להיווצרות די-קטון.

9) מהם השלבים לקבלת התוצרים הבאים ממגיב A?



10) מה התוצרים של התגובות הבאות?



11) מה תוצר התגובה הבאה? ציין קונפיגורציה.

