

יסודות הפיזיקה 20125

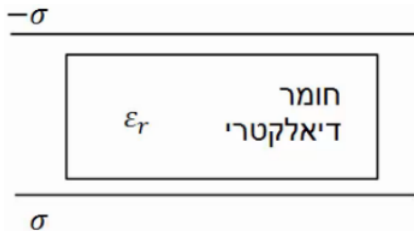
פרק 23 - יחידה 1 (ב) - חומרים דיאלקטריים

תוכן העניינים

1. הסברים ותרגילים.....1

הסברים ותרגילים:

שאלות:

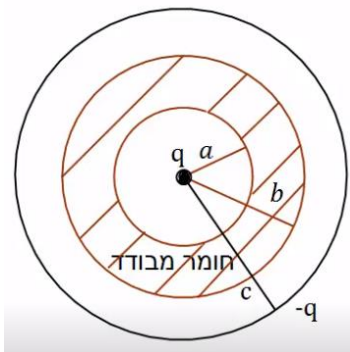


(1) חומר דיאלקטרי בין שני לוחות

חומר דיאלקטרי בעל מקדם $\epsilon_r = 2$ מוכנס בין שני לוחות גדולים מאוד, הטעונים בצפיפות

$$\text{מטען משטחית: } \sigma = 3 \cdot 10^{-3} \frac{\text{C}}{\text{m}^2}$$

מהו השדה החשמלי בתוך החומר, אם הצפיפות בלוח העליון שלילית ובתחתון חיובית.



(2) מטען נקודתי בתוך מעטפת דיאלקטרית

מטען נקודתי $q = 2 \cdot 10^{-6} \text{C}$ מוקף במעטפת כדורית

מבודדת בעלת רדיוס פנימי $a = 5 \text{cm}$ ורדיוס

חיצוני $b = 8 \text{cm}$. המקדם הדיאלקטרי של המעטפת

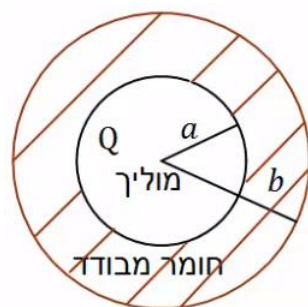
המבודדת הוא: $\epsilon_r = 3$. את כל המערכת עוטפת

קליפה מוליכה דקה ברדיוס $c = 10 \text{cm}$ הטעונה

$$\text{במטען } -q = -2 \cdot 10^{-6} \text{C}$$

מהו השדה החשמלי בכל המרחב אם הקליפה

המבודדת אינה טעונה?



(3) כדור מוליך בתוך מעטפת דיאלקטרית

כדור מוליך ברדיוס a טעון במטען Q .

הכדור מוקף במעטפת עבה העשויה חומר דיאלקטרי

בעל מקדם ϵ_r . הרדיוס הפנימי של המעטפת

הדיאלקטרית צמוד לרדיוס הכדור a והרדיוס

החיצוני שווה ל- b .

הבא את השדה החשמלי בכל המרחב באמצעות הפרמטרים של הבעיה.

תשובות סופיות:

$$E = 1.7 \cdot 10^8 \frac{N}{C} \quad (1)$$

$$E = \begin{cases} \frac{kq}{r^2} & r < a \\ \frac{kq}{r^2} & a < r < b \\ \varepsilon_r & \\ \frac{kq}{r^2} & b < r < c \\ 0 & c < r \end{cases} \quad (2)$$

$$E = \begin{cases} 0 & r < a \\ \frac{kQ}{\varepsilon_r^2} & a < r < b \\ \frac{kQ}{r^2} & b < r \end{cases} \quad (3)$$