

מתמטיקה להנדסאי חשמל

פרק 25 - חשבון דיפרנציאלי - פונקציות לוגריתמיות

תוכן העניינים

1. הנגזרת של פונקציה לוגריתמית.....1
2. שימושי הנגזרת.....6
3. חקירה של פונקציה לוגריתמית.....7

הנגזרת של פונקציה לוגריתמית:

סיכום כללי:

הגדרות כלליות:



להלן תיאורים גרפיים של פונקציה לוגריתמית כללית מהצורה: $f(x) = \log_a x$ עבור $a > 1$ ו- $0 < a < 1$:

תכונות כלליות:

- לפונקציות תחום הגדרה $x > 0$.
- הפונקציות תמיד חותכות את ציר ה- x בנקודה $(1, 0)$.
- עבור $a > 1$ הפונקציה עולה בכל ת.ה. ועבור $0 < a < 1$ הפונקציה יורדת בכל ת.ה.



עבור הפונקציות $f(x) = \ln x = \log_e x$ נקבל כי שיפוע המשיק לגרף הפונקציה בנקודת החיתוך שלה עם ציר ה- x הוא 1:

תחום הגדרה של פונקציה לוגריתמית:

תחום ההגדרה של פונקציה לוגריתמית מהצורה: $y = \log(f(x))$ הוא: $f(x) > 0$.

נגזרות של פונקציות לוגריתמיות:

הפונקציה	הנגזרת
$y = \log_a x$	$y' = \frac{1}{x \ln a}$
$y = \log_a f(x)$	$y' = \frac{f'(x)}{f(x) \ln a}$
$y = \ln x$	$y' = \frac{1}{x}$
$y = \ln f(x)$	$y' = \frac{f'(x)}{f(x)}$

שאלות:

1) גזור את הפונקציות הבאות (גזירה לוגריתמית יסודית עם ביטויים פנימיים שונים):

א. $f(x) = 3 \ln x + 4 \ln(x+2) - \ln(5x-1)$ ב. $f(x) = \ln(x^2 - 3x)$

ג. $f(x) = \ln \frac{x+1}{x-1}$ ד. $f(x) = \ln(e^x + 1)$

ה. $f(x) = \ln(\cos x)$ ו. $f(x) = \log_2 x + 5 \log_3(2x-1)$

2) גזור את הפונקציות הבאות (מכפלה ומנה של פונקציות):

א. $f(x) = x \ln x$ ב. $f(x) = (3x+1)^2 \ln x$ ג. $f(x) = \frac{\ln x}{x}$

ד. $f(x) = \frac{\ln x - 2}{\ln x + 2}$ ה. $f(x) = \sqrt{\ln x + x}$

3) גזור את הפונקציות הבאות (פונקציות מורכבות):

א. $f(x) = \ln^3 x$ ב. $f(x) = 3 \ln^2 x$

ג. $f(x) = x^2 \ln^2 x$ ד. $f(x) = \frac{\ln^2 x + 1}{(\ln x + 1)^2}$

4) גזור את הפונקציות הבאות (שאלות שונות):

א. $f(x) = \ln(x+2)$	ב. $f(x) = \ln^2 x + 2 \ln x - 3$
ג. $f(x) = x^2 \ln x$	ד. $f(x) = x^3 \ln x$
ה. $f(x) = \ln e^{2x}$	ו. $f(x) = e^x \ln x$
ז. $f(x) = e^{-x^2} \ln x$	ח. $f(x) = x^2(2 \ln x - 1)$
ט. $f(x) = \ln(x^2)$	י. $f(x) = \ln(x^4)$
יא. $f(x) = (\ln x)^4$	יב. $f(x) = x \ln x - \ln x^2$
יג. $f(x) = \frac{(\ln x)^2}{x}$	יד. $f(x) = \ln \sqrt{x}$
טו. $f(x) = \sqrt{\ln x}$	טז. $f(x) = \frac{\ln x}{\sqrt{x}}$

5) גזור את הפונקציות הבאות (שאלות אתגר):

א. $f(x) = \ln \frac{x+2}{x}$	ב. $f(x) = \ln \frac{x-1}{x+1}$
ג. $f(x) = \ln \frac{x-3}{x+3}$	ד. $f(x) = \ln \frac{(x-5)^3}{(x+1)^2}$
ה. $f(x) = \ln \sqrt{x^2 - 1}$	ו. $f(x) = \ln(x + \sqrt{x^2 + a^2})$
ז. $f(x) = e^{\sqrt{\ln x}}$	ח. $f(x) = \ln \sqrt{\frac{1}{2-x}}$
ט. $f(x) = \ln \sqrt{\frac{1-x}{1+x}}$	י. $f(x) = \ln \sqrt{\frac{1+5x}{1-5x}}$
יא. $f(x) = \frac{\ln \sqrt[3]{x}}{x}$	יב. $f(x) = \frac{(\ln x)^3}{x}$
יג. $f(x) = \frac{x}{\ln(x^2)}$	יד. $f(x) = \ln^2 x + \frac{1}{\ln^2 x}$
טו. $f(x) = \frac{x}{\ln^4 x}$	

תשובות סופיות:

$$\begin{array}{lll}
 f'(x) = \frac{-2}{(x-1)(x+1)} \cdot \text{ג} & f'(x) = \frac{2x-3}{x^2-3x} \cdot \text{ב} & f'(x) = \frac{3}{x} + \frac{4}{x+2} - \frac{5}{5x-1} \cdot \text{א} \quad (1) \\
 f'(x) = \frac{1}{x \ln 2} + \frac{10}{(2x-1) \ln 3} \cdot \text{ו} & f'(x) = -\tan x \cdot \text{ה} & f'(x) = \frac{e^x}{e^x+1} \cdot \text{ז} \\
 f'(x) = \frac{1-\ln x}{x^2} \cdot \text{ג} & f'(x) = (3x+1) \left(6 \ln x + \frac{3x+1}{x} \right) \cdot \text{ב} & f'(x) = \ln x + 1 \cdot \text{א} \quad (2) \\
 & f'(x) = \frac{1+x}{2x\sqrt{\ln x+x}} \cdot \text{ה} & f'(x) = \frac{4}{x(\ln x+2)^2} \cdot \text{ז} \\
 f'(x) = 2x \ln x (\ln x + 1) \cdot \text{ג} & f'(x) = \frac{6 \ln x}{x} \cdot \text{ב} & f'(x) = \frac{3 \ln^2 x}{x} \cdot \text{א} \quad (3) \\
 & & f'(x) = \frac{2(\ln x - 1)}{x(\ln x + 1)^3} \cdot \text{ז} \\
 x(2 \ln x + 1) \cdot \text{ג} & \frac{2 \ln x + 2}{x} \cdot \text{ב} & \frac{1}{x+2} \cdot \text{א} \quad (4) \\
 e^x \left(\ln x + \frac{1}{x} \right) \cdot \text{ו} & 2 \cdot \text{ה} & x^2 (3 \ln x + 1) \cdot \text{ז} \\
 \frac{4}{x} \cdot \text{ד} & \frac{2}{x} \cdot \text{ט} & 4x \ln x \cdot \text{ח} & e^{-x^2} \left(\frac{1}{x} - 2x \ln x \right) \cdot \text{י} \\
 \frac{2 \ln x - \ln^2 x}{x^2} \cdot \text{ג} & \ln x + 1 - \frac{2}{x} \cdot \text{ב} & \frac{4(\ln x)^3}{x} \cdot \text{א} & \\
 \frac{2 - \ln x}{2x\sqrt{x}} \cdot \text{ט} & \frac{1}{2x\sqrt{\ln x}} \cdot \text{טו} & \frac{1}{2x} \cdot \text{ז} & \\
 \frac{6}{x^2-9} \cdot \text{ג} & \frac{2}{x^2-1} \cdot \text{ב} & -\frac{2}{x(x+2)} \cdot \text{א} \quad (5) \\
 \frac{\sqrt{x^2+a^2}+x}{x\sqrt{x^2+a^2}+x^2+a^2} \cdot \text{ו} & \frac{x}{x^2-1} \cdot \text{ה} & \frac{3}{x-5} - \frac{2}{x+1} \cdot \text{ז} \\
 \frac{1}{x^2-1} \cdot \text{ט} & \frac{1}{4-2x} \cdot \text{ח} & \frac{e^{\sqrt{\ln x}}}{2x\sqrt{\ln x}} \cdot \text{י}
 \end{array}$$

$$\frac{3\ln^2 x - \ln^3 x}{x^2} \quad \text{י.ב.}$$

$$\frac{\ln x - 4}{\ln^5 x} \quad \text{ט.ו.}$$

$$\frac{1 - 3\ln \sqrt[3]{x}}{3x^2} \quad \text{י.א.}$$

$$\frac{2(\ln^4 x - 1)}{x \ln^3 x} \quad \text{י.ד.}$$

$$\frac{5}{1 - 25x^2} \quad \text{י.}$$

$$\frac{\ln(x^2) - 2}{\ln^2(x^2)} \quad \text{י.ג.}$$

שימושי הנגזרת:

שאלות:

(6) מצא את משוואת המשיק לפונקציה $f(x) = \ln x$ בנקודה $A(e,1)$.

(7) שיפוע המשיק לפונקציה $f(x) = \frac{\ln^2 x + a}{\ln x + b}$ בנקודה $\left(\frac{1}{e}, -1\right)$ הוא $\frac{e}{3}$. מצא את ערכי הפרמטרים a ו- b .

(8) הגרפים של הפונקציות $f(x) = \ln x$ ו- $g(x) = 1 - x$ נחתכים בנקודה A ברביע הראשון. בנקודה A העבירו משיק ל- $f(x)$. מצא את משוואת המשיק והוכח שמשיק זה עובר דרך הראשית.

(9) לפונקציה $g(x) = \frac{\ln x^2}{x}$ העבירו משיק בנקודה שבה $x = e^2$. מצא את משוואת המשיק.

(10) מצא את משוואת המשיק לגרף הפונקציה $y = x \ln(x^2 + 1)$ בנקודה שבה $x = 1$.

תשובות סופיות:

(6) $y = \frac{1}{e}x$

(7) $a = 2, b = -2$

(8) $y = \frac{1}{e}x$

(9) $y = -\frac{2}{e^4}x + \frac{6}{e^2}$

(10) $y = \ln 2 \cdot x + x - 1$

חקירה של פונקציה לוגריתמית:

שאלות:

11 מצא את תחום ההגדרה של הפונקציות הבאות:

א. $f(x) = \ln x$	ב. $f(x) = \ln(x^2)$
ג. $f(x) = \log_3(x^2 - 8x - 20)$	ד. $f(x) = \ln(e^x - 4)$
ה. $f(x) = \frac{x-1}{\ln x - 1}$	ו. $f(x) = \frac{1}{\ln^2 x - 2 \ln x - 3}$
ז. $f(x) = \sqrt{\ln x - 1}$	

12 מצא את נקודות הקיצון של הפונקציה הבאה: $f(x) = 2 \ln x - x^2$.

13 מצא את נקודות הקיצון של הפונקציה הבאה: $f(x) = x^2 \ln x$.

14 מצא את נקודות הקיצון של הפונקציה הבאה: $f(x) = \frac{\sqrt{2 \ln x - 1}}{x}$.

15 מצא את נקודות הקיצון של הפונקציה הבאה: $f(x) = \log_4^2 x - \log_2 x$.

16 נתונה הפונקציה: $f(x) = \frac{a \ln x + b}{x}$. הנקודה $(e^2, \frac{1}{e^2})$ היא נקודת קיצון של הפונקציה. מצא את ערכי הפרמטרים a ו- b .

17 נתונה הפונקציה: $f(x) = \frac{a \ln^2 x + b \ln x}{(\ln x + 1)^2}$. הנקודה $(\sqrt[3]{e}, -\frac{1}{8})$ היא נקודת קיצון של הפונקציה. מצא את ערכי הפרמטרים a ו- b .

18 מצא את האסימפטוטות של הפונקציה הבאה: $f(x) = \ln(x-3)$.

19 מצא את האסימפטוטות של הפונקציה הבאה: $f(x) = \frac{1}{\ln x - 1}$.

(20) מצא את האסימפטוטות של הפונקציה הבאה: $f(x) = \frac{2\ln x - 1}{\ln x + 1}$.

(21) מצא את האסימפטוטות של הפונקציה הבאה: $f(x) = \frac{\ln x - 2}{\ln^2 x - 4}$.

(22) מצא את האסימפטוטות של הפונקציה הבאה: $f(x) = \frac{\ln x}{x}$.

(23) מצא את האסימפטוטות של הפונקציה הבאה: $f(x) = \frac{x^2 - 1}{\ln^2 x + 1}$.

(24) מצא את האסימפטוטות של הפונקציה הבאה: $f(x) = x \ln x + 2$.

(25) נתונה הפונקציה: $f(x) = \frac{\ln x}{x}$. מצא את נקודת הפיתול של הפונקציה.

(26) חקור את הפונקציות הבאות עפ"י הסעיפים הבאים:

- i. מציאת תחום ההגדרה של הפונקציה.
- ii. מציאת נקודות החיתוך של גרף הפונקציה עם הצירים.
- iii. מציאת נקודות הקיצון של הפונקציה וקביעת סוגן.
- iv. כתיבת תחומי העלייה והירידה של הפונקציה.

$y = x \ln x$ ב.	$y = \frac{1}{2}x^2 - 4x + 3 \ln x$ א.
$y = \sqrt{x} \ln x$ ד.	$y = x \ln x - x$ ג.
$y = \ln(x^2 + 1)$ ו.	$y = x^2 \ln x$ ה.

(27) נתונה הפונקציה $f(x) = 2x \ln^2 x$. חקור לפי הסעיפים הבאים:

- א. מציאת תחום ההגדרה של הפונקציה.
- ב. מציאת נקודות הקיצון של הפונקציה וקביעת סוגן.
- ג. כתיבת תחומי העלייה והירידה של הפונקציה.
- ד. נקודות החיתוך של גרף הפונקציה עם הצירים.
- ה. סרטוט סקיצה של גרף הפונקציה.

(28) נתונה הפונקציה $f(x) = \frac{x}{\ln x - 1}$. חקור לפי הסעיפים הבאים:

- א. תחום הגדרה של הפונקציה.
- ב. מציאת נקודות הקיצון של הפונקציה וקביעת סוגן.
- ג. כתיבת תחומי העלייה והירידה של הפונקציה.
- ד. מציאת נקודות החיתוך של גרף הפונקציה עם הצירים.
- ה. סרטוט סקיצה של גרף הפונקציה.
- ו. מצא לאלו ערכי k הישר $y = k$ חותך את הפונקציה בשתי נקודות.

(29) נתונה הפונקציה $f(x) = \log_4^2 x - \log_2 x$. חקור לפי הסעיפים הבאים:

- א. תחום הגדרה של הפונקציה.
- ב. מציאת נקודות הקיצון של הפונקציה וקביעת סוגן.
- ג. כתיבת תחומי העלייה והירידה של הפונקציה.
- ד. מציאת נקודות החיתוך של גרף הפונקציה עם הצירים.
- ה. סרטוט סקיצה של גרף הפונקציה.

(30) נתונה הפונקציה: $f(x) = \sqrt{\ln x}$.

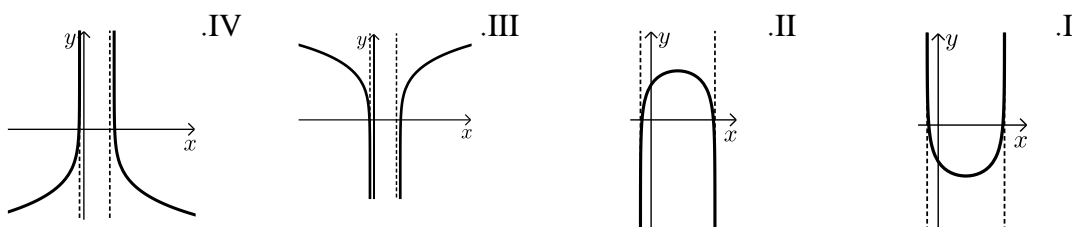
- א. מהו תחום ההגדרה של הפונקציה?
- ב. הוכח כי גרף הפונקציה עולה בכל תחום הגדרתו.
- ג. מגדירים פונקציה נוספת: $g(x) = \ln x$.
- ד. מצא את נקודות החיתוך של שני הגרפים.
- ה. הנקודה A נמצאת על גרף הפונקציה $f(x)$ והנקודה B נמצאת על גרף הפונקציה $g(x)$. ידוע כי לנקודות A ו-B אותו שיעור x , $(x_A = x_B)$.
- ו. מצא את שיעור ה- x של שתי הנקודות אם ידוע כי המשיקים לגרפים של הפונקציות בנקודות אלו מקבילים.

31 נתונה שתי הפונקציות הבאות: $f(x) = \frac{x}{\ln x}$, $g(x) = \frac{\ln x}{x}$.

- א. קבע אילו מהמשפטים הבאים נכונים ואלו שגויים.
 נמק זאת ע"י חישוב מתאים ותקן במשפטים השגויים את הטעות.
- לשתי הפונקציות אותו תחום הגדרה.
 - לשתי הפונקציות יש נקודת קיצון מאותו סוג ובעלות שיעור x זהה.
 - לשתי הפונקציות תחומי עלייה וירידה זהים.
 - לשתי הפונקציות יש אסימפטוטות אנכיות.
- ב. בוחרים באקראי שתי נקודות, אחת על כל גרף, כך ששיעור ה- x שלהן זהה. הוכח כי מכפלת שיעורי ה- y של כל זוג נקודות כאלו שווה ל-1.

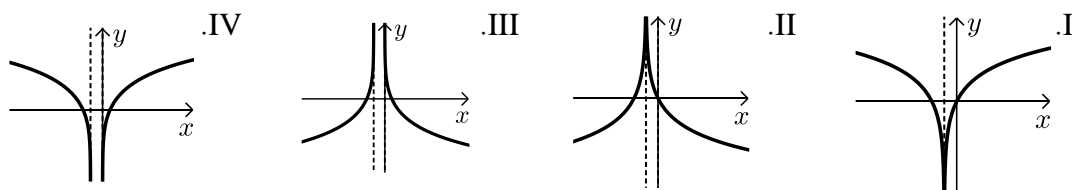
32 נתונה הפונקציה הבאה: $y = \ln(x^2 - 6x - 7)$.

- א. מצא את תחום ההגדרה של הפונקציה.
 ב. מהן האסימפטוטות של הפונקציה המקבילות לציר ה- y ?
 ג. מצא את תחומי העלייה והירידה של הפונקציה.
 ד. לפניך 4 גרפים: I, II, III, ו-IV. איזה מהגרפים מתאים לפונקציה הנתונה. נמק.



33 נתונה הפונקציה: $y = \ln(x^2 + 2x + 1)$.

- א. מצא את תחום ההגדרה של הפונקציה.
 ב. מהי האסימפטוטה של הפונקציה המקבילה לציר ה- y ?
 ג. מצא את תחומי העלייה והירידה של הפונקציה.
 ד. לפניך 4 גרפים: I, II, III, ו-IV. איזה מהגרפים מתאים לפונקציה הנתונה. נמק.



ה. העזר בגרף שבחרת וכתוב את תחומי השליליות של הפונקציה.

34 לפניך הפונקציה הבאה : $f(x) = \ln(1 - \ln x)$.

- מה הוא תחום ההגדרה של הפונקציה?
- הוכח כי הפונקציה יורדת בכל תחום הגדרתה.
- מצא את נקודות החיתוך של גרף הפונקציה עם ציר ה- x .
- סרטט סקיצה של גרף הפונקציה.

35 נתונה הפונקציה הבאה : $y = \ln \frac{2x+1}{x-1}$.

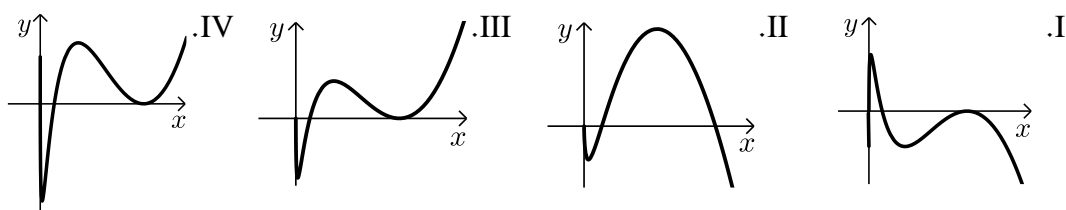
- מצא את תחום ההגדרה של הפונקציה.
- כתוב את האסימפטוטות האנכיות של גרף הפונקציה.
- מצא את נקודות החיתוך של גרף הפונקציה עם ציר ה- x .
- הראה כי גרף הפונקציה יורד בכל תחום הגדרתו.
- סרטט סקיצה של גרף הפונקציה.

36 נתונה הפונקציה הבאה : $f(x) = x(\ln^3 x + 2\ln^2 x)$.

- הראה כי נגזרת הפונקציה היא : $f'(x) = \ln^3 x + 5\ln^2 x + 4\ln x$.
- מצא את התחום בו הפונקציה עולה.
- ענה על השאלות הבאות:

- מצא את נקודות החיתוך של הפונקציה עם ציר ה- x .
- מצא את התחום בו הפונקציה חיובית.

ד. לפניך 4 גרפים. קבע איזה מהם מתאר את הפונקציה $f(x)$ ונמק את בחירתך.



37 נתונה הפונקציה : $f(x) = \ln^3 x - 3\ln x$.

- מה הוא תחום ההגדרה של הפונקציה.
- מצא את נקודות החיתוך של הפונקציה עם ציר ה- x .
- מצא את נקודות הקיצון של הפונקציה וקבע את סוגן.
- סרטט סקיצה של גרף הפונקציה.
- מצא את נקודות החיתוך של גרף הפונקציה $f(x)$ עם הפונקציה $g(x) = \ln x$.

38) ענה על הסעיפים הבאים :

א. פתור את המשוואה הבאה : $\ln(x+e) - \ln(x\sqrt{e}) = \ln 2 - 0.5$

נתונה הפונקציה : $f(x) = \ln(x+e) - \ln(x\sqrt{e})$

ב. הראה כי הפונקציה יורדת בכל תחום הגדרתה.

ג. מצא את משוואת המשיק לגרף הפונקציה בנקודה שבה : $x = e$.

39) נתונה הפונקציה הבאה : $y = \frac{x+a}{\ln(x+a)}$, פרמטר חיובי, $a \neq 1$

א. הבע באמצעות a את :

i. תחום ההגדרה של הפונקציה.

ii. הנקודה המקיימת $y' = 0$.

iii. נקודת החיתוך של גרף הפונקציה עם הצירים.

iv. האסימפטוטה האנכית של הפונקציה.

ב. ידוע כי גרף הפונקציה עולה רק בתחום : $x > e - 2$. מצא את a .

ג. סרטט סקיצה של גרף הפונקציה בתחום $x > -1$.

ד. נתון הישר : $y = k$. מצא בסקיצה את תחום הערכים של k עבורו לישר ולגרף הפונקציה לא תהיה אף נקודה משותפת.

40) נתונה הפונקציה הבאה : $y = \ln x + \frac{1}{x}$

א. ענה על הסעיפים הבאים :

i. מהו תחום ההגדרה של הפונקציה?

ii. יש לגרף הפונקציה אסימפטוטה מקבילה לציר y ?

אם כן מצא אותה.

ב. מצא את נקודת הקיצון של גרף הפונקציה וקבע את סוגה.

ג. כתוב את תחומי העלייה והירידה של גרף הפונקציה.

תשובות סופיות:

(11) א. $x > 0$ ב. $x \neq 0$ ג. $x > 10$ או $x < -2$ ד. $x > \ln 4$

ה. $0 < x \neq e$ ו. $x > 0$ וגם $x \neq e^3, e^{-1}$ ז. $x \geq e$

(12) $\max(1, -1)$

(13) $\min\left(\frac{1}{\sqrt{e}}, -\frac{1}{2e}\right)$

(14) $\max\left(e, \frac{1}{e}\right)$ קצה, $\min(\sqrt{e}, 0)$

(15) $\min(4, -1)$

(16) $a = 1, b = -1$

(17) $a = 1, b = -1$

(18) $x = 3$

(19) נקודת אי הגדרה $(0, 0)$, $y = 0, x = e$

(20) נקודת אי הגדרה $(0, 2)$, $y = 2, x = \frac{1}{e}$

(21) נקודת אי הגדרה $(e^2, \frac{1}{4})$, $(0, 0)$; $y = 0, x = \frac{1}{e^2}$

(22) $x = 0, y = 0$

(23) נקודת אי הגדרה $(0, 0)$

(24) נקודת אי הגדרה $(0, 2)$

(25) $\left(\sqrt{e^3}, \frac{3}{2\sqrt{e^3}}\right)$

(26) א. i. $x > 0$ iii. $\max(1, -3.5), \min(3, \ln 27 - 7.5)$

iv. עולה: $0 < x < 1, x > 3$ יורדת: $1 < x < 3$ ב. i. $x > 0$ ii. $(1, 0)$

iii. $\min(e^{-1}, -e^{-1})$ iv. עולה: $x > e^{-1}$ יורדת: $0 < x < e^{-1}$

ג. i. $x > 0$ ii. $(e, 0)$ iii. $\min(1, -1)$ iv. עולה: $x > 1$ יורדת: $0 < x < 1$

ד. i. $x > 0$ ii. $(1, 0)$ iii. $\min\left(e^{-2}, -\frac{2}{e}\right)$ iv. עולה: $x > e^{-2}$ יורדת: $0 < x < e^{-2}$

ה. i. $x > 0$ ii. $(1, 0)$ iii. $\min\left(\frac{1}{\sqrt{e}}, -\frac{1}{2e}\right)$ iv. עולה: $x > \frac{1}{\sqrt{e}}$ יורדת: $0 < x < \frac{1}{\sqrt{e}}$

ו. i. כל x ii. $(0, 0)$ iii. $\min(0, 0)$ iv. עולה: $x > 0$ יורדת: $x < 0$

(27) א. $x > 0$ ב. $\max\left(\frac{1}{e^2}, \frac{8}{e^2}\right), \min(1, 0)$

ג. עלייה: $x > 1$ או $0 < x < \frac{1}{e^2}$, ירידה: $\frac{1}{e^2} < x < 1$ ד. $(1, 0)$.

(28) א. $0 < x \neq e$ ב. $\min(e^2, e^2)$ ג. עלייה: $x > e^2$, ירידה: $0 < x < e^2$

ו. $k > e^2$ ד. אין.

(29) א. $x > 0$ ב. $\min(4, -1)$ ג. עלייה: $x > 4$, ירידה: $0 < x < 4$

ד. $(1, 0), (16, 0)$.

(30) א. $x \geq 1$ ב. מתקבל: $0 < f'(x) = \frac{1}{2x\sqrt{\ln x}} > 0$ ג. $(1, 0), (e, 1)$

ד. $x = \sqrt[4]{e}$.

(31) א. i. לא נכון. תחום ההגדרה של $f(x)$ הוא: $x > 0, x \neq 1$ ותחום ההגדרה של $g(x)$ הוא: $x > 0$.

ii. לא נכון. לשתי הפונקציות נקודת קיצון שבה $x = e$ אך עבור $f(x)$ מדובר במינימום ועבור $g(x)$ מדובר במקסימום.

iii. לא נכון. עבור $f(x)$: עולה: $x > e$ יורדת: $0 < x < e, x \neq 1$.

ועבור $g(x)$: עולה: $0 < x < e$ יורדת: $x > e$ iv. נכון.

ב. לגבי כל נקודה נאמר כי שיעור ה- y שלה הוא: $y = \frac{x}{\ln x}$ ו- $y = \frac{\ln x}{x}$.

נכפול: $y = \frac{x}{\ln x} \cdot \frac{\ln x}{x} = 1$.

(32) א. $x < -1, x > 7$ ב. $x = -1, 7$ ג. עולה: $x > 7$ יורדת: $x < -1$.

ד. III. הסבר: באיורים I ו-II גרף הפונקציה לא בתחום. באיור IV תחומי העלייה והירידה הפוכים.

(33) א. $x \neq -1$ ב. $x = -1$ ג. עולה: $x > -1$ יורדת: $x < -1$.

ד. I. הסבר: באיור II תחומי העלייה והירידה הפוכים.

באיורים III ו-IV יש אסימפטוטה מיותרת. ה. $x \neq -1, -2 < x < 0$.

34 א. $0 < x < e$. (שימו לב כי תנאי ת.ה. הם: $1 - \ln x > 0$ וגם $x > 0$).

ב. $f'(x) = \frac{-\frac{1}{x}}{1 - \ln x} = -\frac{1}{x(1 - \ln x)} < 0$. ולכן הפונקציה יורדת בת.ה.

ג. $(1, 0)$.

35 א. $x < -\frac{1}{2}, x > 1$. ב. $x = -\frac{1}{2}, 1$. ג. $(-2, 0)$.

ד. מתקבל: $y' = \frac{-3}{(2x+1)(x-1)} < 0$.

36 ב. $x > 1, e^{-4} < x < e^{-1}$.

ג. i. 2 נקודות והן: $(e^{-2}, 0)$, $(1, 0)$. הנקודה שבה: $x = 0$ לא קיימת עקב ת.ה.

ii. $x \neq 1, x > e^{-2}$. ד. III – בראשית הצירים יש חור ולא אסימפטוטה.

שאר הנתונים כפי שהתקבלו בסעיפים הקודמים.

37 א. $x > 0$. ב. $(e^{-\sqrt{3}}, 0)$, $(1, 0)$, $(e^{\sqrt{3}}, 0)$. ג. $\min(e, -2)$, $\max(e^{-1}, 2)$.

ה. $(1, 0)$, $(e^2, 2)$, $(e^{-2}, -2)$.

38 א. $x = e$. ב. מתקבל: $y' = \frac{-e}{x(x+e)} < 0$. ג. $y = -\frac{1}{2e}x + \ln 2$.

39 א. i. $x > -a, x \neq 1 - a$. ii. $(e - a, e)$. iii. $(0, \frac{a}{\ln a})$.

iv. $x = 1 - a$. ב. $a = 2$. ד. $k < e$.

40 א. i. $x > 0$. ii. $x = 0$. ב. $\min(1, 1)$. ג. עולה: $x > 1$, יורדת: $0 < x < 1$.

סקיצות לשאלות:

