

# מכינה במתמטיקה למערכות מידע

פרק 23 - חשבון דיפרנציאלי - פונקציות לוגריתמיות

תוכן העניינים

1. הנגזרת של פונקציה לוגריתמית.....1
2. שימושי הנגזרת.....6
3. חקירה של פונקציה לוגריתמית.....7

## הנגזרת של פונקציה לוגריתמית:

**סיכום כללי:**

**הגדרות כלליות:**



להלן תיאורים גרפיים של פונקציה לוגריתמית כללית מהצורה:  $f(x) = \log_a x$  עבור  $a > 1$  ו-  $0 < a < 1$ :

**תכונות כלליות:**

- לפונקציות תחום הגדרה  $x > 0$ .
- הפונקציות תמיד חותכות את ציר ה- $x$  בנקודה  $(1, 0)$ .
- עבור  $a > 1$  הפונקציה עולה בכל ת.ה. ועבור  $0 < a < 1$  הפונקציה יורדת בכל ת.ה.



עבור הפונקציות  $f(x) = \ln x = \log_e x$  נקבל כי שיפוע המשיק לגרף הפונקציה בנקודת החיתוך שלה עם ציר ה- $x$  הוא 1:

**תחום הגדרה של פונקציה לוגריתמית:**

תחום ההגדרה של פונקציה לוגריתמית מהצורה:  $y = \log(f(x))$  הוא:  $f(x) > 0$ .

## נגזרות של פונקציות לוגריתמיות:

| הנגזרת                          | הפונקציה          |
|---------------------------------|-------------------|
| $y' = \frac{1}{x \ln a}$        | $y = \log_a x$    |
| $y' = \frac{f'(x)}{f(x) \ln a}$ | $y = \log_a f(x)$ |
| $y' = \frac{1}{x}$              | $y = \ln x$       |
| $y' = \frac{f'(x)}{f(x)}$       | $y = \ln f(x)$    |

## שאלות:

1) גזור את הפונקציות הבאות (גזירה לוגריתמית יסודית עם ביטויים פנימיים שונים):

א.  $f(x) = 3 \ln x + 4 \ln(x+2) - \ln(5x-1)$     ב.  $f(x) = \ln(x^2 - 3x)$

ג.  $f(x) = \ln \frac{x+1}{x-1}$     ד.  $f(x) = \ln(e^x + 1)$

ה.  $f(x) = \ln(\cos x)$     ו.  $f(x) = \log_2 x + 5 \log_3(2x-1)$

2) גזור את הפונקציות הבאות (מכפלה ומנה של פונקציות):

א.  $f(x) = x \ln x$     ב.  $f(x) = (3x+1)^2 \ln x$     ג.  $f(x) = \frac{\ln x}{x}$

ד.  $f(x) = \frac{\ln x - 2}{\ln x + 2}$     ה.  $f(x) = \sqrt{\ln x + x}$

3) גזור את הפונקציות הבאות (פונקציות מורכבות):

א.  $f(x) = \ln^3 x$     ב.  $f(x) = 3 \ln^2 x$

ג.  $f(x) = x^2 \ln^2 x$     ד.  $f(x) = \frac{\ln^2 x + 1}{(\ln x + 1)^2}$

4) גזור את הפונקציות הבאות (שאלות שונות):

- |                                  |                                     |
|----------------------------------|-------------------------------------|
| א. $f(x) = \ln(x+2)$             | ב. $f(x) = \ln^2 x + 2 \ln x - 3$   |
| ג. $f(x) = x^2 \ln x$            | ד. $f(x) = x^3 \ln x$               |
| ה. $f(x) = \ln e^{2x}$           | ו. $f(x) = e^x \ln x$               |
| ז. $f(x) = e^{-x^2} \ln x$       | ח. $f(x) = x^2(2 \ln x - 1)$        |
| ט. $f(x) = \ln(x^2)$             | י. $f(x) = \ln(x^4)$                |
| יא. $f(x) = (\ln x)^4$           | יב. $f(x) = x \ln x - \ln x^2$      |
| יג. $f(x) = \frac{(\ln x)^2}{x}$ | יד. $f(x) = \ln \sqrt{x}$           |
| טו. $f(x) = \sqrt{\ln x}$        | טז. $f(x) = \frac{\ln x}{\sqrt{x}}$ |

5) גזור את הפונקציות הבאות (שאלות אתגר):

- |  |  |
|--|--|
| א. $f(x) = \ln \frac{x+2}{x}$          | ב. $f(x) = \ln \frac{x-1}{x+1}$          |
| ג. $f(x) = \ln \frac{x-3}{x+3}$        | ד. $f(x) = \ln \frac{(x-5)^3}{(x+1)^2}$  |
| ה. $f(x) = \ln \sqrt{x^2-1}$           | ו. $f(x) = \ln(x + \sqrt{x^2+a^2})$      |
| ז. $f(x) = e^{\sqrt{\ln x}}$           | ח. $f(x) = \ln \sqrt{\frac{1}{2-x}}$     |
| ט. $f(x) = \ln \sqrt{\frac{1-x}{1+x}}$ | י. $f(x) = \ln \sqrt{\frac{1+5x}{1-5x}}$ |
| יא. $f(x) = \frac{\ln \sqrt[3]{x}}{x}$ | יב. $f(x) = \frac{(\ln x)^3}{x}$         |
| יג. $f(x) = \frac{x}{\ln(x^2)}$        | יד. $f(x) = \ln^2 x + \frac{1}{\ln^2 x}$ |
| טו. $f(x) = \frac{x}{\ln^4 x}$         |  |

**תשובות סופיות:**

$$\begin{array}{lll}
 f'(x) = \frac{-2}{(x-1)(x+1)} \cdot \text{ג} & f'(x) = \frac{2x-3}{x^2-3x} \cdot \text{ב} & f'(x) = \frac{3}{x} + \frac{4}{x+2} - \frac{5}{5x-1} \cdot \text{א} \quad (1) \\
 f'(x) = \frac{1}{x \ln 2} + \frac{10}{(2x-1) \ln 3} \cdot \text{ו} & f'(x) = -\tan x \cdot \text{ה} & f'(x) = \frac{e^x}{e^x+1} \cdot \text{ז} \\
 f'(x) = \frac{1-\ln x}{x^2} \cdot \text{ג} & f'(x) = (3x+1) \left( 6 \ln x + \frac{3x+1}{x} \right) \cdot \text{ב} & f'(x) = \ln x + 1 \cdot \text{א} \quad (2) \\
 & f'(x) = \frac{1+x}{2x\sqrt{\ln x+x}} \cdot \text{ה} & f'(x) = \frac{4}{x(\ln x+2)^2} \cdot \text{ז} \\
 f'(x) = 2x \ln x (\ln x + 1) \cdot \text{ג} & f'(x) = \frac{6 \ln x}{x} \cdot \text{ב} & f'(x) = \frac{3 \ln^2 x}{x} \cdot \text{א} \quad (3) \\
 & & f'(x) = \frac{2(\ln x - 1)}{x(\ln x + 1)^3} \cdot \text{ז} \\
 x(2 \ln x + 1) \cdot \text{ג} & \frac{2 \ln x + 2}{x} \cdot \text{ב} & \frac{1}{x+2} \cdot \text{א} \quad (4) \\
 e^x \left( \ln x + \frac{1}{x} \right) \cdot \text{ו} & 2 \cdot \text{ה} & x^2 (3 \ln x + 1) \cdot \text{ז} \\
 \frac{4}{x} \cdot \text{ד} & \frac{2}{x} \cdot \text{ט} & 4x \ln x \cdot \text{ח} & e^{-x^2} \left( \frac{1}{x} - 2x \ln x \right) \cdot \text{ז} \\
 \frac{2 \ln x - \ln^2 x}{x^2} \cdot \text{ג} & \ln x + 1 - \frac{2}{x} \cdot \text{ב} & \frac{4(\ln x)^3}{x} \cdot \text{א} \\
 \frac{2 - \ln x}{2x\sqrt{x}} \cdot \text{ט} & \frac{1}{2x\sqrt{\ln x}} \cdot \text{טו} & \frac{1}{2x} \cdot \text{ז} \\
 \frac{6}{x^2-9} \cdot \text{ג} & \frac{2}{x^2-1} \cdot \text{ב} & -\frac{2}{x(x+2)} \cdot \text{א} \quad (5) \\
 \frac{\sqrt{x^2+a^2}+x}{x\sqrt{x^2+a^2}+x^2+a^2} \cdot \text{ו} & \frac{x}{x^2-1} \cdot \text{ה} & \frac{3}{x-5} - \frac{2}{x+1} \cdot \text{ז} \\
 \frac{1}{x^2-1} \cdot \text{ט} & \frac{1}{4-2x} \cdot \text{ח} & \frac{e^{\sqrt{\ln x}}}{2x\sqrt{\ln x}} \cdot \text{ז}
 \end{array}$$

$$\frac{3\ln^2 x - \ln^3 x}{x^2} \quad \text{י.ב.}$$

$$\frac{\ln x - 4}{\ln^5 x} \quad \text{ט.ו.}$$

$$\frac{1 - 3\ln \sqrt[3]{x}}{3x^2} \quad \text{י.א.}$$

$$\frac{2(\ln^4 x - 1)}{x \ln^3 x} \quad \text{י.ד.}$$

$$\frac{5}{1 - 25x^2} \quad \text{י.י.}$$

$$\frac{\ln(x^2) - 2}{\ln^2(x^2)} \quad \text{י.ג.}$$

## שימושי הנגזרת:

### שאלות:

- (6) מצא את משוואת המשיק לפונקציה  $f(x) = \ln x$  בנקודה  $A(e, 1)$ .
- (7) שיפוע המשיק לפונקציה  $f(x) = \frac{\ln^2 x + a}{\ln x + b}$  בנקודה  $\left(\frac{1}{e}, -1\right)$  הוא  $\frac{e}{3}$ . מצא את ערכי הפרמטרים  $a$  ו- $b$ .
- (8) הגרפים של הפונקציות  $f(x) = \ln x$  ו- $g(x) = 1 - x$  נחתכים בנקודה  $A$  ברביע הראשון. בנקודה  $A$  העבירו משיק ל- $f(x)$ . מצא את משוואת המשיק והוכח שמשיק זה עובר דרך הראשית.
- (9) לפונקציה  $g(x) = \frac{\ln x^2}{x}$  העבירו משיק בנקודה שבה  $x = e^2$ . מצא את משוואת המשיק.
- (10) מצא את משוואת המשיק לגרף הפונקציה  $y = x \ln(x^2 + 1)$  בנקודה שבה  $x = 1$ .

### תשובות סופיות:

- (6)  $y = \frac{1}{e}x$
- (7)  $a = 2, b = -2$
- (8)  $y = \frac{1}{e}x$
- (9)  $y = -\frac{2}{e^4}x + \frac{6}{e^2}$
- (10)  $y = \ln 2 \cdot x + x - 1$

## חקירה של פונקציה לוגריתמית:

### שאלות:

11 מצא את תחום ההגדרה של הפונקציות הבאות:

|                                   |   |
|-----------------------------------|---|
| א. $f(x) = \ln x$                 | ב. $f(x) = \ln(x^2)$                        |
| ג. $f(x) = \log_3(x^2 - 8x - 20)$ | ד. $f(x) = \ln(e^x - 4)$                    |
| ה. $f(x) = \frac{x-1}{\ln x - 1}$ | ו. $f(x) = \frac{1}{\ln^2 x - 2 \ln x - 3}$ |
| ז. $f(x) = \sqrt{\ln x - 1}$      |   |

12 מצא את נקודות הקיצון של הפונקציה הבאה:  $f(x) = 2 \ln x - x^2$ .

13 מצא את נקודות הקיצון של הפונקציה הבאה:  $f(x) = x^2 \ln x$ .

14 מצא את נקודות הקיצון של הפונקציה הבאה:  $f(x) = \frac{\sqrt{2 \ln x - 1}}{x}$ .

15 מצא את נקודות הקיצון של הפונקציה הבאה:  $f(x) = \log_4^2 x - \log_2 x$ .

16 נתונה הפונקציה:  $f(x) = \frac{a \ln x + b}{x}$ . הנקודה  $(e^2, \frac{1}{e^2})$  היא נקודת קיצון של הפונקציה. מצא את ערכי הפרמטרים  $a$  ו- $b$ .

17 נתונה הפונקציה:  $f(x) = \frac{a \ln^2 x + b \ln x}{(\ln x + 1)^2}$ . הנקודה  $(\sqrt[3]{e}, -\frac{1}{8})$  היא נקודת קיצון של הפונקציה. מצא את ערכי הפרמטרים  $a$  ו- $b$ .

18 מצא את האסימפטוטות של הפונקציה הבאה:  $f(x) = \ln(x-3)$ .

19 מצא את האסימפטוטות של הפונקציה הבאה:  $f(x) = \frac{1}{\ln x - 1}$ .

(20) מצא את האסימפטוטות של הפונקציה הבאה:  $f(x) = \frac{2\ln x - 1}{\ln x + 1}$ .

(21) מצא את האסימפטוטות של הפונקציה הבאה:  $f(x) = \frac{\ln x - 2}{\ln^2 x - 4}$ .

(22) מצא את האסימפטוטות של הפונקציה הבאה:  $f(x) = \frac{\ln x}{x}$ .

(23) מצא את האסימפטוטות של הפונקציה הבאה:  $f(x) = \frac{x^2 - 1}{\ln^2 x + 1}$ .

(24) מצא את האסימפטוטות של הפונקציה הבאה:  $f(x) = x \ln x + 2$ .

(25) נתונה הפונקציה:  $f(x) = \frac{\ln x}{x}$ . מצא את נקודת הפיתול של הפונקציה.

(26) חקור את הפונקציות הבאות עפ"י הסעיפים הבאים:

- i. מציאת תחום ההגדרה של הפונקציה.
- ii. מציאת נקודות החיתוך של גרף הפונקציה עם הצירים.
- iii. מציאת נקודות הקיצון של הפונקציה וקביעת סוגן.
- iv. כתיבת תחומי העלייה והירידה של הפונקציה.

|                         |  |
|-------------------------|--|
| $y = x \ln x$ ב.        | $y = \frac{1}{2}x^2 - 4x + 3 \ln x$ א. |
| $y = \sqrt{x} \ln x$ ד. | $y = x \ln x - x$ ג.                   |
| $y = \ln(x^2 + 1)$ ו.   | $y = x^2 \ln x$ ה.                     |

**(27)** נתונה הפונקציה  $f(x) = 2x \ln^2 x$ . חקור לפי הסעיפים הבאים:

- מציאת תחום ההגדרה של הפונקציה.
- מציאת נקודות הקיצון של הפונקציה וקביעת סוגן.
- כתיבת תחומי העלייה והירידה של הפונקציה.
- נקודות החיתוך של גרף הפונקציה עם הצירים.
- סרטוט סקיצה של גרף הפונקציה.

**(28)** נתונה הפונקציה  $f(x) = \frac{x}{\ln x - 1}$ . חקור לפי הסעיפים הבאים:

- תחום הגדרה של הפונקציה.
- מציאת נקודות הקיצון של הפונקציה וקביעת סוגן.
- כתיבת תחומי העלייה והירידה של הפונקציה.
- מציאת נקודות החיתוך של גרף הפונקציה עם הצירים.
- סרטוט סקיצה של גרף הפונקציה.
- מצא לאלו ערכי  $k$  הישר  $y = k$  חותך את הפונקציה בשתי נקודות.

**(29)** נתונה הפונקציה  $f(x) = \log_4^2 x - \log_2 x$ . חקור לפי הסעיפים הבאים:

- תחום הגדרה של הפונקציה.
- מציאת נקודות הקיצון של הפונקציה וקביעת סוגן.
- כתיבת תחומי העלייה והירידה של הפונקציה.
- מציאת נקודות החיתוך של גרף הפונקציה עם הצירים.
- סרטוט סקיצה של גרף הפונקציה.

**(30)** נתונה הפונקציה:  $f(x) = \sqrt{\ln x}$ .

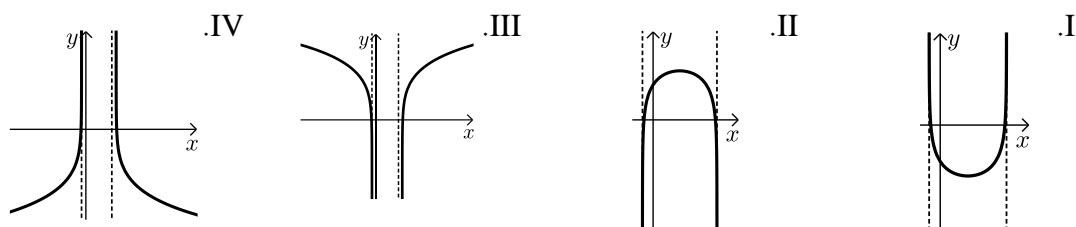
- מהו תחום ההגדרה של הפונקציה?
- הוכח כי גרף הפונקציה עולה בכל תחום הגדרתו.
- מגדירים פונקציה נוספת:  $g(x) = \ln x$ .
- מצא את נקודות החיתוך של שני הגרפים.
- הנקודה A נמצאת על גרף הפונקציה  $f(x)$  והנקודה B נמצאת על גרף הפונקציה  $g(x)$ . ידוע כי לנקודות A ו-B אותו שיעור  $x$ ,  $(x_A = x_B)$ .
- מצא את שיעור ה- $x$  של שתי הנקודות אם ידוע כי המשיקים לגרפים של הפונקציות בנקודות אלו מקבילים.

**31** נתונה שתי הפונקציות הבאות:  $f(x) = \frac{x}{\ln x}$ ,  $g(x) = \frac{\ln x}{x}$ .

- א. קבע אילו מהמשפטים הבאים נכונים ואלו שגויים.  
 נמק זאת ע"י חישוב מתאים ותקן במשפטים השגויים את הטעות.
- לשתי הפונקציות אותו תחום הגדרה.
  - לשתי הפונקציות יש נקודת קיצון מאותו סוג ובעלות שיעור  $x$  זהה.
  - לשתי הפונקציות תחומי עלייה וירידה זהים.
  - לשתי הפונקציות יש אסימפטוטות אנכיות.
- ב. בחרים באקראי שתי נקודות, אחת על כל גרף, כך ששיעור ה- $x$  שלהן זהה. הוכח כי מכפלת שיעורי ה- $y$  של כל זוג נקודות כאלו שווה ל-1.

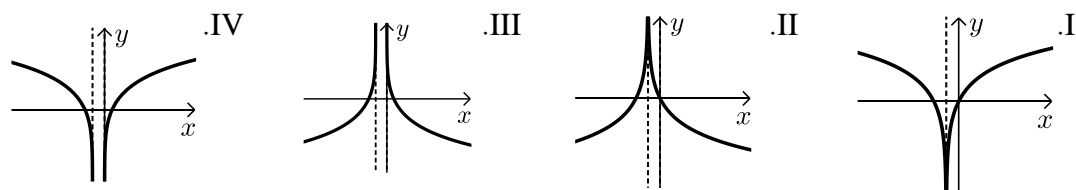
**32** נתונה הפונקציה הבאה:  $y = \ln(x^2 - 6x - 7)$ .

- א. מצא את תחום ההגדרה של הפונקציה.  
 ב. מהן האסימפטוטות של הפונקציה המקבילות לציר ה- $y$ ?  
 ג. מצא את תחומי העלייה והירידה של הפונקציה.  
 ד. לפניך 4 גרפים: I, II, III, ו-IV. איזה מהגרפים מתאים לפונקציה הנתונה. נמק.



**33** נתונה הפונקציה:  $y = \ln(x^2 + 2x + 1)$ .

- א. מצא את תחום ההגדרה של הפונקציה.  
 ב. מהי האסימפטוטה של הפונקציה המקבילה לציר ה- $y$ ?  
 ג. מצא את תחומי העלייה והירידה של הפונקציה.  
 ד. לפניך 4 גרפים: I, II, III, ו-IV. איזה מהגרפים מתאים לפונקציה הנתונה. נמק.



ה. העזר בגרף שבחרת וכתוב את תחומי השליליות של הפונקציה.

**34** לפניך הפונקציה הבאה :  $f(x) = \ln(1 - \ln x)$ .

- מה הוא תחום ההגדרה של הפונקציה?
- הוכח כי הפונקציה יורדת בכל תחום הגדרתה.
- מצא את נקודות החיתוך של גרף הפונקציה עם ציר ה- $x$ .
- סרטט סקיצה של גרף הפונקציה.

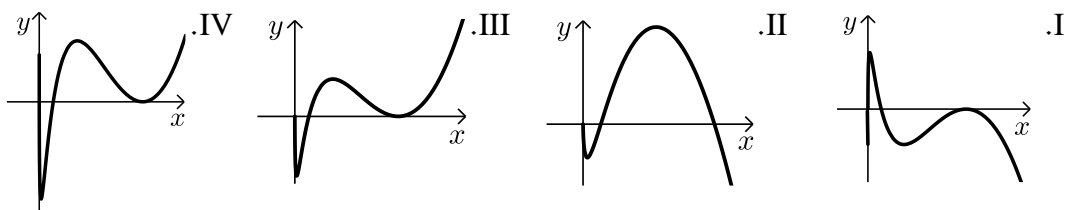
**35** נתונה הפונקציה הבאה :  $y = \ln \frac{2x+1}{x-1}$ .

- מצא את תחום ההגדרה של הפונקציה.
- כתוב את האסימפטוטות האנכיות של גרף הפונקציה.
- מצא את נקודות החיתוך של גרף הפונקציה עם ציר ה- $x$ .
- הראה כי גרף הפונקציה יורד בכל תחום הגדרתו.
- סרטט סקיצה של גרף הפונקציה.

**36** נתונה הפונקציה הבאה :  $f(x) = x(\ln^3 x + 2\ln^2 x)$ .

- הראה כי נגזרת הפונקציה היא :  $f'(x) = \ln^3 x + 5\ln^2 x + 4\ln x$ .
- מצא את התחום בו הפונקציה עולה.
- ענה על השאלות הבאות :
  - מצא את נקודות החיתוך של הפונקציה עם ציר ה- $x$ .
  - מצא את התחום בו הפונקציה חיובית.

ד. לפניך 4 גרפים. קבע איזה מהם מתאר את הפונקציה  $f(x)$  ונמק את בחירתך.



**37** נתונה הפונקציה :  $f(x) = \ln^3 x - 3\ln x$ .

- מה הוא תחום ההגדרה של הפונקציה.
- מצא את נקודות החיתוך של הפונקציה עם ציר ה- $x$ .
- מצא את נקודות הקיצון של הפונקציה וקבע את סוגן.
- סרטט סקיצה של גרף הפונקציה.
- מצא את נקודות החיתוך של גרף הפונקציה  $f(x)$  עם הפונקציה  $g(x) = \ln x$ .

38) ענה על הסעיפים הבאים :

א. פתור את המשוואה הבאה :  $\ln(x+e) - \ln(x\sqrt{e}) = \ln 2 - 0.5$

נתונה הפונקציה :  $f(x) = \ln(x+e) - \ln(x\sqrt{e})$

ב. הראה כי הפונקציה יורדת בכל תחום הגדרתה.

ג. מצא את משוואת המשיק לגרף הפונקציה בנקודה שבה :  $x = e$ .

39) נתונה הפונקציה הבאה :  $y = \frac{x+a}{\ln(x+a)}$  , פרמטר חיובי,  $a \neq 1$

א. הבע באמצעות  $a$  את :

i. תחום ההגדרה של הפונקציה.

ii. הנקודה המקיימת  $y' = 0$ .

iii. נקודת החיתוך של גרף הפונקציה עם הצירים.

iv. האסימפטוטה האנכית של הפונקציה.

ב. ידוע כי גרף הפונקציה עולה רק בתחום :  $x > e - 2$ . מצא את  $a$ .

ג. סרטט סקיצה של גרף הפונקציה בתחום  $x > -1$ .

ד. נתון הישר :  $y = k$ . מצא בסקיצה את תחום הערכים של  $k$  עבורו לישר ולגרף הפונקציה לא תהיה אף נקודה משותפת.

40) נתונה הפונקציה הבאה :  $y = \ln x + \frac{1}{x}$

א. ענה על הסעיפים הבאים :

i. מהו תחום ההגדרה של הפונקציה?

ii. יש לגרף הפונקציה אסימפטוטה מקבילה לציר  $y$  ?

אם כן מצא אותה.

ב. מצא את נקודת הקיצון של גרף הפונקציה וקבע את סוגה.

ג. כתוב את תחומי העלייה והירידה של גרף הפונקציה.

**תשובות סופיות:**

(11) א.  $x > 0$     ב.  $x \neq 0$     ג.  $x > 10$  או  $x < -2$     ד.  $x > \ln 4$   
 ה.  $0 < x \neq e$     ו.  $x > 0$  וגם  $x \neq e^3, e^{-1}$     ז.  $x \geq e$

(12)  $\max(1, -1)$

(13)  $\min\left(\frac{1}{\sqrt{e}}, -\frac{1}{2e}\right)$

(14)  $\min(\sqrt{e}, 0)$  קצה,  $\max\left(e, \frac{1}{e}\right)$

(15)  $\min(4, -1)$

(16)  $a = 1, b = -1$

(17)  $a = 1, b = -1$

(18)  $x = 3$

(19) נקודת אי הגדרה  $(0, 0)$ ,  $y = 0, x = e$

(20) נקודת אי הגדרה  $(0, 2)$ ,  $y = 2, x = \frac{1}{e}$

(21) נקודת אי הגדרה  $(e^2, \frac{1}{4})$ ,  $(0, 0)$ ;  $y = 0, x = \frac{1}{e^2}$

(22)  $x = 0, y = 0$

(23) נקודת אי הגדרה  $(0, 0)$

(24) נקודת אי הגדרה  $(0, 2)$

(25)  $\left(\sqrt{e^3}, \frac{3}{2\sqrt{e^3}}\right)$

(26) א. i.  $x > 0$     iii.  $\max(1, -3.5), \min(3, \ln 27 - 7.5)$

iv. עולה:  $0 < x < 1, x > 3$  יורדת:  $1 < x < 3$     ב. i.  $x > 0$     ii.  $(1, 0)$

iii.  $\min(e^{-1}, -e^{-1})$     iv. עולה:  $x > e^{-1}$  יורדת:  $0 < x < e^{-1}$

ג. i.  $x > 0$     ii.  $(e, 0)$     iii.  $\min(1, -1)$     iv. עולה:  $x > 1$  יורדת:  $0 < x < 1$

ד. i.  $x > 0$     ii.  $(1, 0)$     iii.  $\min\left(e^{-2}, -\frac{2}{e}\right)$     iv. עולה:  $x > e^{-2}$  יורדת:  $0 < x < e^{-2}$

ה. i.  $x > 0$  ii.  $(1, 0)$  iii.  $\min\left(\frac{1}{\sqrt{e}}, -\frac{1}{2e}\right)$  iv. עולה:  $x > \frac{1}{\sqrt{e}}$  יורדת:  $0 < x < \frac{1}{\sqrt{e}}$

ו. i. כל  $x$  ii.  $(0, 0)$  iii.  $\min(0, 0)$  iv. עולה:  $x > 0$  יורדת:  $x < 0$

(27) א.  $x > 0$  ב.  $\max\left(\frac{1}{e^2}, \frac{8}{e^2}\right), \min(1, 0)$

ג. עלייה:  $x > 1$  או  $0 < x < \frac{1}{e^2}$ , ירידה:  $\frac{1}{e^2} < x < 1$  ד.  $(1, 0)$ .

(28) א.  $0 < x \neq e$  ב.  $\min(e^2, e^2)$  ג. עלייה:  $x > e^2$ , ירידה:  $0 < x < e^2$

ו.  $k > e^2$  ד. אין.

(29) א.  $x > 0$  ב.  $\min(4, -1)$  ג. עלייה:  $x > 4$ , ירידה:  $0 < x < 4$

ד.  $(1, 0), (16, 0)$ .

(30) א.  $x \geq 1$  ב. מתקבל:  $f'(x) = \frac{1}{2x\sqrt{\ln x}} > 0$  ג.  $(1, 0), (e, 1)$

ד.  $x = \sqrt[4]{e}$ .

(31) א. i. לא נכון. תחום ההגדרה של  $f(x)$  הוא:  $x > 0, x \neq 1$  ותחום ההגדרה של  $g(x)$  הוא:  $x > 0$ .

ii. לא נכון. לשתי הפונקציות נקודת קיצון שבה  $x = e$  אך עבור  $f(x)$  מדובר במינימום ועבור  $g(x)$  מדובר במקסימום.

iii. לא נכון. עבור  $f(x)$ : עולה:  $x > e$  יורדת:  $0 < x < e, x \neq 1$ .

ועבור  $g(x)$ : עולה:  $0 < x < e$  יורדת:  $x > e$  iv. נכון.

ב. לגבי כל נקודה נאמר כי שיעור ה- $y$  שלה הוא:  $y = \frac{x}{\ln x}$  ו- $y = \frac{\ln x}{x}$ .

נכפול:  $y = \frac{x}{\ln x} \cdot \frac{\ln x}{x} = 1$ .

(32) א.  $x < -1, x > 7$  ב.  $x = -1, 7$  ג. עולה:  $x > 7$  יורדת:  $x < -1$ .

ד. III. הסבר: באיורים I ו-II גרף הפונקציה לא בתחום. באיור IV תחומי העלייה והירידה הפוכים.

(33) א.  $x \neq -1$  ב.  $x = -1$  ג. עולה:  $x > -1$  יורדת:  $x < -1$ .

ד. I. הסבר: באיור II תחומי העלייה והירידה הפוכים.

באיורים III ו-IV יש אסימפטוטה מיותרת. ה.  $x \neq -1, -2 < x < 0$ .

34 א.  $0 < x < e$ . (שימו לב כי תנאי ת.ה. הם:  $1 - \ln x > 0$  וגם  $x > 0$ ).

ב.  $f'(x) = \frac{-\frac{1}{x}}{1 - \ln x} = -\frac{1}{x(1 - \ln x)} < 0$ . ולכן הפונקציה יורדת בת.ה.

ג.  $(1, 0)$ .

35 א.  $x < -\frac{1}{2}, x > 1$ . ב.  $x = -\frac{1}{2}, 1$ . ג.  $(-2, 0)$ .

ד. מתקבל:  $y' = \frac{-3}{(2x+1)(x-1)} < 0$ .

36 ב.  $x > 1, e^{-4} < x < e^{-1}$ .

ג. i. 2 נקודות והן:  $(e^{-2}, 0)$ ,  $(1, 0)$ . הנקודה שבה:  $x = 0$  לא קיימת עקב ת.ה.

ii.  $x \neq 1, x > e^{-2}$ . ד. III – בראשית הצירים יש חור ולא אסימפטוטה.

שאר הנתונים כפי שהתקבלו בסעיפים הקודמים.

37 א.  $x > 0$ . ב.  $(e^{-\sqrt{3}}, 0)$ ,  $(1, 0)$ ,  $(e^{\sqrt{3}}, 0)$ . ג.  $\min(e, -2)$ ,  $\max(e^{-1}, 2)$ .

ה.  $(1, 0)$ ,  $(e^2, 2)$ ,  $(e^{-2}, -2)$ .

38 א.  $x = e$ . ב. מתקבל:  $y' = \frac{-e}{x(x+e)} < 0$ . ג.  $y = -\frac{1}{2e}x + \ln 2$ .

39 א. i.  $x > -a, x \neq 1 - a$ . ii.  $(e - a, e)$ . iii.  $(0, \frac{a}{\ln a})$ .

iv.  $x = 1 - a$ . ב.  $a = 2$ . ד.  $k < e$ .

40 א. i.  $x > 0$ . ii.  $x = 0$ . ב.  $\min(1, 1)$ . ג. עולה:  $x > 1$ , יורדת:  $0 < x < 1$ .

## סקיצות לשאלות:

