

כלים מתמטיים 71001

פרק 21 - חשבון דיפרנציאלי - חקירת פונקצית מנה ושורש

תוכן העניינים

1. מציאת תחום הגדרה 1
2. מציאת נקודות קיצון ותחומי עלייה וירידה 3
3. מציאת אסימפטוטות המקבילות לצירים 4
4. חקירת פונקצית מנה 9
5. חקירת פונקצית שורש 18
6. תחומי קעירות ונקודות פיתול 26
7. חקירת פונקציה עם פרמטר 32
8. פונקציות ללא תבנית מפורשת 35

מציאת תחום הגדרה:

סיכום כללי:

- כל פולינום מוגדר לכל x .
- בפונקציה עם מכנה, אסור שיתקבל אפס במכנה.
- בפונקציה עם שורש זוגי, אסור שיתקבל מספר שלילי בתוך השורש.

שאלות:

(1) מצא את תחום ההגדרה של הפונקציות הבאות:

א. $f(x) = x^2 + \frac{1}{2}x$	ב. $f(x) = 4x^3 - x^2 + \frac{x}{2} + 1$
ג. $f(x) = x^3 - x^2 - 4x + 1$	ד. $f(x) = \frac{2x}{x-3}$
ה. $f(x) = \frac{1}{x^2 - 4}$	ו. $f(x) = \frac{5x^3 + 4x}{x^2 - 1}$
ז. $f(x) = \frac{x^2}{x^2 - x - 2}$	ח. $f(x) = \frac{x^2 + 1}{x^2 - 2x - 8}$
ט. $f(x) = \frac{6}{x^2 + 1}$	י. $f(x) = \frac{4x + 1}{x^2 + 1}$
יא. $f(x) = \frac{1}{x^3 - x}$	יב. $f(x) = \frac{x^2}{x^3 - 4x}$

(2) מצא את תחום ההגדרה של הפונקציות הבאות:

א. $f(x) = \sqrt{x}$	ב. $f(x) = 2\sqrt{x-3}$
ג. $f(x) = \sqrt{x-4}$	ד. $f(x) = 3x\sqrt{1-2x}$
ה. $f(x) = \sqrt{x^2 + 3x - 10}$	ו. $f(x) = \sqrt{x^2 + x - 2}$
ז. $f(x) = \frac{5x}{\sqrt{x+4}}$	ח. $f(x) = \frac{\sqrt{x^2 + 5x + 6}}{x-1}$
ט. $f(x) = \sqrt{\frac{2x^2 + x - 3}{x^2 + 5x + 9}}$	י. $f(x) = \frac{x-2}{\sqrt{x^3 - 9x}}$
יא. $f(x) = \frac{1}{x + \sqrt{x+6}}$	יב. $f(x) = \frac{x+1}{x - \sqrt{2-x}}$
יג. $f(x) = \frac{1}{\sqrt{1- x }}$	יד. $f(x) = \sqrt{\sqrt{x+2} - 3}$

תשובות סופיות:

- (1) א. כל x ב. כל x ג. כל x ד. $x \neq 3$ ה. $x \neq \pm 2$ ו. $x \neq \pm 1$
 ז. $x \neq -1, 2$ ח. $x \neq 4, -2$ ט. כל x י. כל x יא. $x \neq \pm 1, 0$ יב. $x \neq \pm 2, 0$
- (2) א. $x \geq 0$ ב. $x \geq 3$ ג. $x \geq 4$ ד. $x \leq \frac{1}{2}$ ה. $x \leq -5, x \geq 2$
- ו. $x \leq -2, x \geq 1$ ז. $x > -4$ ח. $x \leq -3, -2 \leq x < 1, x > 1$ ט. $x \leq -1.5, x \geq 1$
 י. $-3 < x < 0, x > 3$ יא. $-6 \leq x < -2, x > -2$ יב. $x < 1, 1 < x \leq 2$
 יג. $-1 < x < 1$ יד. $x \geq 7$

מציאת נקודות קיצון ותחומי עלייה וירידה:

שאלות:

(3) נתונה הפונקציה: $f(x) = \frac{6x}{x^2 - 10x + 9}$.

- א. מהן נקודות הקיצון של הפונקציה?
 ב. מהם תחומי העלייה והירידה של הפונקציה?

תשובות סופיות:

(3) א. $\min\left(-3, -\frac{3}{8}\right), \max\left(3, -1\frac{1}{2}\right)$.

ב. עולה: $-3 < x < 3$, יורדת: $x < -3, 3 < x \neq 9$, $x \neq 1$.

מציאת אסימפטוטות המקבילות לצירים:

סיכום כללי:

אסימפטוטה אנכית:

הגדרה: הישר: $x = k$ הוא אסימפטוטה אנכית של פונקציה מהצורה: $y = \frac{f(x)}{g(x)}$

אם הוא מקיים: $g(k) = 0$ וגם: $f(k) \neq 0$. בצורה מתמטית: אם: $\lim_{x \rightarrow k^+} \frac{f(x)}{g(x)} = \pm\infty$

או: $\lim_{x \rightarrow k^-} \frac{f(x)}{g(x)} = \pm\infty$ או שניהם אז הישר: $x = k$ הוא אסימפטוטה אנכית לפונקציה $y = \frac{f(x)}{g(x)}$.

הסבר כללי:

בעבור ערכי x שמאפסים את המכנה, אבל לא את המונה יש אסימפטוטה אנכית. כאשר ערך x מאפס את המכנה וגם את המונה יש לפרק את המונה והמכנה (על ידי נוסחאות כפל מקוצר או טרינום למשל) ולצמצם. אם אחרי הצמצום אותו ערך של x עדיין מאפס את המכנה תתקבל אסימפטוטה אנכית, אך אם ערך x זה לא מאפס את המכנה אחרי שצומצם אין אסימפטוטה אנכית אלא נקודת אי הגדרה.

אסימפטוטה אופקית:

הגדרה: ישר מהצורה: $y = n$ הוא אסימפטוטה אופקית לפונקציה מהצורה: $y = \frac{f(x)}{g(x)}$

אם מתקיים: $\lim_{x \rightarrow \infty^+} \frac{f(x)}{g(x)} = n$ או: $\lim_{x \rightarrow \infty^-} \frac{f(x)}{g(x)} = n$ או שניהם.

אופן החישוב הכללי:

נתונה הפונקציה $f(x) = \frac{ax^m + \dots}{bx^n + \dots}$ (יש בפונקציה קו שבר אחד!)

- אם $m > n$, לפונקציה אין אסימפטוטה אופקית.
- אם $m = n$, לפונקציה יש אסימפטוטה אופקית שמשוואתה $y = \frac{a}{b}$.
- אם $m < n$, לפונקציה יש אסימפטוטה אופקית שמשוואתה $y = 0$.

חוקי גבולות לאינסוף:

במקרים רבים נרצה לדעת האם פונקציה מסוימת מתכנסת לערך כלשהו כאשר x שואף לערכים ההולכים וגדלים (לאינסוף, או למינוס אינסוף). עבור ערכי x שהולכים וגדלים (או קטנים) נרשום: $x = \infty$ או $x = -\infty$ בהתאמה.

ישנם 4 מצבים בהם ערך הפונקציה בשאיפת x לאחד הקצוות ניתן לחישוב ישיר:

- הגבול: $\lim_{x \rightarrow \infty} \frac{1}{x} = \frac{1}{\infty} = 0$

- הגבול: $\lim_{x \rightarrow 0} \frac{1}{x}$ ניתן לפיצול לשני מקרים:

- אם: $x \rightarrow 0^+$ (מתקרב ל-0 מהכיוון החיובי) אז: $\lim_{x \rightarrow 0^+} \frac{1}{x} = \frac{1}{0^+} = +\infty$

- אם: $x \rightarrow 0^-$ (מתקרב ל-0 מהכיוון השלילי) אז: $\lim_{x \rightarrow 0^-} \frac{1}{x} = \frac{1}{0^-} = -\infty$

- הגבול מהצורה $\infty \cdot \infty$ (מכפלת שני ביטויים של x אשר כל אחד מהם שואף לאינסוף בפני עצמו) מקיים: $\infty \cdot \infty = \infty$

- הגבול מהצורה $\infty + \infty$ (סכום שני ביטויים של x אשר כל אחד מהם שואף לאינסוף בפני עצמו) מקיים: $\infty + \infty = \infty$

ישנם 3 מקרים בהם לא ניתן לדעת מהו ערך הפונקציה בלקיחת הגבול בצורה ישירה והם:

- הגבול מהצורה: $\frac{\infty}{\infty}$ (מנת שני ביטויים שהולכים וגדלים עם שאיפת x).

- הגבול מהצורה: $\frac{0}{0}$ (מנת שני ביטויים שהולכים וקטנים עם שאיפת x).

- הגבול מהצורה: $\infty - \infty$ (הפרש של שני ביטויים שהולכים וגדלים עם שאיפת x). במקרים אלו נעזר בפישוטים שהוצגו לעיל על מנת למצוא את ערך הגבול עצמו.

שאלות:

(4) מצא את האסימפטוטות המקבילות לצירים של הפונקציה: $f(x) = \frac{1}{x-2} + 3$

(5) מצא את האסימפטוטות המקבילות לצירים של הפונקציה: $f(x) = \frac{5x^2+1}{x^2-9}$

(6) מצא את האסימפטוטות המקבילות לצירים של הפונקציה: $f(x) = \frac{2x^2-5x+2}{1+3x^2}$

(7) מצא את האסימפטוטות המקבילות לצירים של הפונקציה: $f(x) = \frac{3x}{x^2-2x-15}$

(8) מצא את האסימפטוטות המקבילות לצירים של הפונקציה: $f(x) = \frac{6x^3-5x+1}{1+2x^2}$

(9) מצא את האסימפטוטות המקבילות לצירים של הפונקציה: $f(x) = \frac{ax+b}{x-b}$

(10) מצא את האסימפטוטות המקבילות לצירים של הפונקציה: $f(x) = \frac{x^2-4}{x^2-3x+2}$
 ואת נקודת אי הרציפות שלה.

(11) מצא את האסימפטוטות המקבילות לצירים של הפונקציה: $f(x) = \frac{x^2}{2x^2-4x}$
 ואת נקודת אי הרציפות שלה.

(12) מצא את האסימפטוטות המקבילות לצירים של הפונקציה: $f(x) = \frac{\sqrt{x-1}}{x^2-4}$

(13) מצא את האסימפטוטות המקבילות לצירים של הפונקציה: $f(x) = \frac{x}{\sqrt{4-x}}$

14) מצא את האסימפטוטות המקבילות לצירים של הפונקציה: $f(x) = \frac{\sqrt{x}}{1-\sqrt{x}}$

15) מצא את האסימפטוטות המקבילות לצירים של הפונקציה: $f(x) = \frac{2x}{x-\sqrt{x}}$

16) מצא את האסימפטוטות המקבילות לצירים של הפונקציה: $f(x) = \frac{3x}{\sqrt{x^2+5}}$

17) מצא את האסימפטוטות המקבילות לצירים של הפונקציה: $f(x) = \frac{5x}{\sqrt{x^2-16}}$

18) נתונה הפונקציה: $f(x) = \frac{4x^2+1}{ax^2-x+b}$

האסימפטוטה האופקית של הפונקציה ואחת האסימפטוטות האנכיות של הפונקציה

נפגשות בנקודה $(-1, 2)$.

מצא את ערכי הפרמטרים a ו- b .

19) נתונה הפונקציה: $f(x) = \frac{ax+8}{x+b\sqrt{x}}$

הפונקציה חותכת את האסימפטוטה האופקית שלה בנקודה $(16, 2)$.

מצא את ערכי הפרמטרים a ו- b .

תשובות סופיות:

$$\cdot x = 2, y = 3 \quad (4)$$

$$\cdot x = \pm 3, y = 5 \quad (5)$$

$$\cdot y = \frac{2}{3} \quad (6)$$

$$\cdot x = -3, x = 5, y = 0 \quad (7)$$

$$\cdot \text{אין} \quad (8)$$

$$\cdot x = b, y = a \quad (9)$$

$$\cdot (2, 4) \text{ נקודת אי-הגדרה: } x = 1, y = 1 \quad (10)$$

$$\cdot (0, 0) \text{ נקודת אי-הגדרה: } x = 2, y = \frac{1}{2} \quad (11)$$

$$\cdot x = 2, y = 0 \quad (12)$$

$$\cdot x = 4 \quad (13)$$

$$\cdot x = 1, y = -1 \quad (14)$$

$$\cdot x = 1, y = 2 \quad (15)$$

$$\cdot y = \lim_{x \rightarrow \infty} (f(x)) = 3, y = \lim_{x \rightarrow -\infty} (f(x)) = -3 \quad (16)$$

$$\cdot x = 4, x = -4, y = 5, y = -5 \quad (17)$$

$$\cdot b = -3, a = 2 \quad (18)$$

$$\cdot b = 1, a = 2 \quad (19)$$

חקירת פונקציה מנה:

שאלות:

(20) נתונה הפונקציה: $f(x) = \frac{6x^2 - 10x + 6}{3x^2 - 10x + 3}$. חקור את הפונקציה לפי הסעיפים הבאים:

- א. מציאת תחום ההגדרה.
- ב. מציאת נקודות הקיצון של הפונקציה.
- ג. כתיבת תחומי העלייה והירידה של הפונקציה.
- ד. מציאת נקודות החיתוך של גרף הפונקציה עם הצירים.
- ה. מציאת אסימפטוטות המקבילות לצירים.
- ו. שרטוט סקיצה של גרף הפונקציה.

(21) נתונה הפונקציה: $f(x) = x + \frac{1}{x}$. חקור את הפונקציה לפי הסעיפים הבאים:

- א. מציאת תחום ההגדרה.
- ב. מציאת נקודות הקיצון של הפונקציה.
- ג. כתיבת תחומי העלייה והירידה של הפונקציה.
- ד. מציאת נקודות החיתוך של גרף הפונקציה עם הצירים.
- ה. שרטוט סקיצה של גרף הפונקציה.

(22) נתונה הפונקציה: $f(x) = \frac{2x+1}{x-3}$. חקור את הפונקציה לפי הסעיפים הבאים:

- א. מציאת תחום ההגדרה.
- ב. מציאת נקודות הקיצון של הפונקציה.
- ג. כתיבת תחומי העלייה והירידה של הפונקציה.
- ד. מציאת נקודות החיתוך של גרף הפונקציה עם הצירים.
- ה. מציאת אסימפטוטות המקבילות לצירים.
- ו. שרטוט סקיצה של גרף הפונקציה.

(23) נתונה הפונקציה: $f(x) = \frac{6x}{x^2 - 5x + 4}$. חקור את הפונקציה לפי הסעיפים הבאים:

- א. מציאת תחום ההגדרה.
- ב. מציאת נקודות הקיצון של הפונקציה.
- ג. כתיבת תחומי העלייה והירידה של הפונקציה.
- ד. מציאת נקודות החיתוך של גרף הפונקציה עם הצירים.
- ה. שרטוט סקיצה של גרף הפונקציה.

(24) נתונה הפונקציה: $f(x) = \frac{x^2 - 3x}{x^2 + 3}$. חקור את הפונקציה לפי הסעיפים הבאים:

- א. מציאת תחום ההגדרה.
- ב. מציאת נקודות הקיצון של הפונקציה.
- ג. כתיבת תחומי העלייה והירידה של הפונקציה.
- ד. מציאת נקודות החיתוך של גרף הפונקציה עם הצירים.
- ה. שרטוט סקיצה של גרף הפונקציה.

(25) נתונה הפונקציה הבאה: $y = \frac{2x^2 - 5x + 2}{4x}$. חקור לפי הסעיפים הבאים:

- א. תחום הגדרה.
- ב. נקודות קיצון.
- ג. קביעת סוג הקיצון ותחומי עלייה וירידה.
- ד. חיתוך עם הצירים.
- ה. מציאת אסימפטוטה אנכית.
- ו. שרטוט סקיצה.

(26) נתונה הפונקציה: $f(x) = \frac{x^2 - 5x + 6}{x - 3}$. חקור את הפונקציה לפי הסעיפים הבאים:

- א. מציאת תחום הגדרה.
- ב. מציאת נקודות קיצון של הפונקציה.
- ג. כתיבת תחומי העלייה והירידה של הפונקציה.
- ד. מציאת נקודות החיתוך של גרף הפונקציה עם הצירים.
- ה. מציאת אסימפטוטות המקבילות לצירים.
- ו. שרטוט סקיצה של גרף הפונקציה.

(27) נתונה הפונקציה: $f(x) = \frac{x^2 - 3x + 2}{x^2 - 1}$. חקור את הפונקציה לפי הסעיפים הבאים:

- א. מציאת תחום הגדרה.
- ב. מציאת נקודות קיצון של הפונקציה.
- ג. כתיבת תחומי העלייה והירידה של הפונקציה.
- ד. מציאת נקודות החיתוך של גרף הפונקציה עם הצירים.
- ה. מציאת אסימפטוטות המקבילות לצירים.
- ו. סרטוט סקיצה של גרף הפונקציה.

(28) לגרף הפונקציה: $f(x) = \frac{ax + 4}{x^2}$ יש נקודת קיצון שבה $x = -8$.

- א. מצא את a וכתוב את הפונקציה.
- ב. כתוב את תחומי העלייה והירידה של הפונקציה.
- ג. מצא את נקודות החיתוך של הפונקציה עם הצירים.
- ד. מצא את האסימפטוטות המקבילות לצירים.
- ה. סרטוט סקיצה של גרף הפונקציה.

(29) נתונה הפונקציה: $f(x) = \frac{3x^2}{2x^2 - 8}$.

- א. מהו תחום הגדרה של הפונקציה?
- ב. מצא את נקודות הקיצון של הפונקציה.
- ג. קבע את סוג הקיצון ותחומי העלייה והירידה של הפונקציה.
- ד. מצא את נקודות החיתוך עם הצירים של הפונקציה.
- ה. מצא את האסימפטוטות המקבילות לצירים של הפונקציה.
- ו. סרטוט סקיצה של גרף הפונקציה.

(30) נתונה הפונקציה: $y = \frac{a^2x - 4}{2x^2 - 1}$, $(a$ קבוע).

- ידוע כי שיפוע המשיק לגרף הפונקציה בנקודה שבה: $x = 1$ הוא: $m = 4$.
- א. מצא את כל הערכים האפשריים עבור a .
 - ב. מצא את נקודות החיתוך של גרף הפונקציה עם הצירים.
 - ג. מצא את נקודת החיתוך בין המשיק הנתון ומשיק העובר דרך נקודת החיתוך של גרף הפונקציה עם ציר ה- y .

(31) נתונה הפונקציה הבאה: $f(x) = 1.5x - \frac{5x+1}{x+5}$. חקור לפי הסעיפים הבאים:

- א. תחום הגדרה.
- ב. נקודות קיצון וסוגן.
- ג. תחומי עלייה וירידה.
- ד. חיתוך עם הצירים.
- ה. מציאת אסימפטוטות המקבילות לצירים.
- ו. סרטוט סקיצה.

(32) נתונה הפונקציה: $f(x) = \frac{x-a}{x-1}$, $(a \neq 1)$.

- א. מצא את תחום ההגדרה של הפונקציה.
- ב. מצא את האסימפטוטות של הפונקציה המקבילות לצירים.
- ג. הבע באמצעות a את השיעורים של נקודת החיתוך של גרף הפונקציה עם ציר ה- x ועם ציר ה- y .
- ד. ענה על הסעיפים הבאים:
 - i. מצא עבור אילו ערכים של a הפונקציה $f(x)$ עולה לכל x בתחום ההגדרה.
 - ii. ישר המשיק לגרף הפונקציה $f(x)$ בנקודה שבה $x=a$ מקביל לישר המשיק לגרף הפונקציה בנקודה שבה: $x=2$. מצא את הערך של a אם נתון כי הפונקציה עולה לכל x .

(33) נתונה הפונקציה: $f(x) = \frac{x^2 + ax + 6}{x-2}$, $(a \text{ פרמטר})$.

- ידוע שאחת מנקודות הקיצון של הפונקציה נמצאת על ציר ה- y .
- א. מצא את הערך של a .
 - ב. הצב את הערך של a שמצאת בסעיף א' ומצא:
 - i. את תחום ההגדרה של הפונקציה.
 - ii. את נקודות החיתוך של גרף הפונקציה עם הצירים (אם יש כאלה).
 - iii. את השיעורים של נקודות הקיצון של הפונקציה, וקבע את סוגן.
 - iv. את האסימפטוטות של הפונקציה המקבילות לצירים (אם יש כאלה).
 - ג. עבור אלו ערכי x הפונקציה שלילית?
 - ד. נתון הישר: $y = k$. עבור אלו ערכי k אין נקודות משותפות לישר ולגרף הפונקציה? נמק.

34 נתונה הפונקציה: $y = \frac{x+3}{x-2} + A$, (A פרמטר). גרף הפונקציה עובר בנקודה (3A, A).

- א. מצא את ערך הפרמטר A.
 - ב. כתוב את תחום ההגדרה של הפונקציה.
 - ג. הוכח כי גרף הפונקציה יורד לכל x .
 - ד. מצא את נקודת החיתוך של גרף הפונקציה עם ציר ה- y .
 - ה. סרטט סקיצה של גרף הפונקציה.
 - ו. נתון הישר: $y = k$.
- האם קיים ערך של k עבורו הישר חותך את גרף הפונקציה בשתי נקודות שונות? נמק.

35 נתונה הפונקציה: $f(x) = \frac{ax^2 - 20x + 28}{x^2 + 2a}$.

- ידוע כי גרף הפונקציה חותך את האסימפטוטה האופקית שלו בנקודה (3, 0.5).
- א. מצא את ערך הפרמטר a וכתוב את הפונקציה ואת תחום הגדרתה.
 - ב. מצא את נקודות הקיצון של הפונקציה וקבע את סוגן.
 - ג. כתוב את תחומי העלייה והירידה של הפונקציה.
 - ד. מצא את נקודות החיתוך של גרף הפונקציה עם הצירים.
 - ה. סרטט סקיצה של גרף הפונקציה.
 - ו. העזר בגרף הפונקציה וקבע עבור אלו ערכים של k הישר: $y = k$ יחתוך את גרף הפונקציה בנקודה אחת בלבד.

36 ענה על הסעיפים הבאים:

- א. הוכח כי לגרף הפונקציה: $f(x) = \frac{9-x^2}{x^2-k}$ יש נקודת קיצון שנמצאת על ציר ה- y .
- ב. הוכח כי הפונקציה $f(x)$ מוגדרת לכל x אם ידוע כי שיעור ה- y של נקודת הקיצון הוא 3.
- ג. מצא את נקודות החיתוך של גרף הפונקציה עם ציר ה- x .
- ד. מצא את האסימפטוטה האופקית של הפונקציה.
- ה. סרטט סקיצה של גרף הפונקציה וקבע בכמה נקודות יחתוך אותו הישר $y = -1$. נמק את תשובתך.

תשובות סופיות:

20 א. $x \neq 3, x \neq \frac{1}{3}$ ב. $\min\left(-1, 1\frac{3}{8}\right), \max\left(1, -\frac{1}{2}\right)$

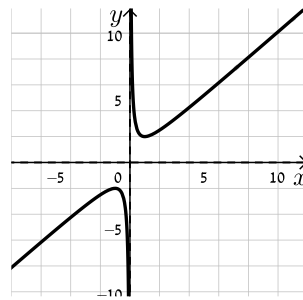
ג. תחומי עלייה: $-1 < x < 1$ וגם $x \neq \frac{1}{3}$, תחומי ירידה: $1 < x \neq 3$ או $x < -1$.



ד. $(0, 2)$ ה. $x = \frac{1}{3}, x = 3, y = 2$ ו. להלן סקיצה:

21 א. $x \neq 0$ ב. $\min(1, 2), \max(-1, -2)$

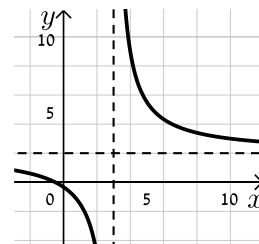
ג. עולה: $x > 1$ או $x < -1$, יורדת: $-1 < x < 1$, $x \neq 0$ ד. אין



ה. להלן סקיצה:

22 א. $x \neq 3$ ב. אין ג. הפונקציה יורדת בכל ת.ה.

ד. $\left(-\frac{1}{2}, 0\right), \left(0, -\frac{1}{3}\right)$ ה. $y = 2, x = 3$



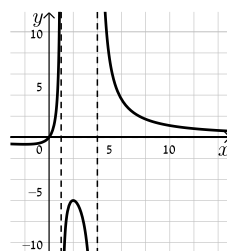
ו. להלן סקיצה:

23 א. $x \neq 1, x \neq 4$ ב. $\min\left(-2, -\frac{2}{3}\right), \max(2, -6)$

ג. תחומי עלייה: $-2 < x < 2$, $x \neq 1$, תחומי ירידה: $x < -2$ או $x > 2, x \neq 4$

ד. $(0, 0)$ (אסימפטוטות: $y = 0, x = 1, x = 4$).

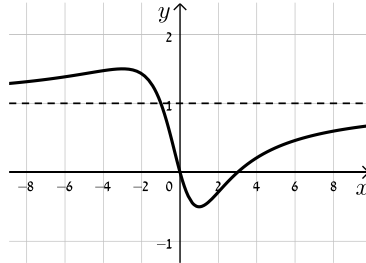
ה. להלן סקיצה:



24) א. כל x ב. $\min\left(1, -\frac{1}{2}\right), \max\left(-3, 1\frac{1}{2}\right)$

ד. $(0,0), (3,0)$ (אסימפטוטה: $y=1$).

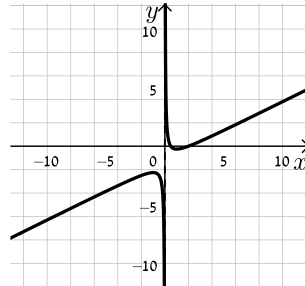
ג. עולה: $x > 1$ או $x < -3$, יורדת: $-3 < x < 1$
ה. להלן סקיצה:



25) א. $x \neq 0$ ב. $\min(1, -0.25), \max(-1, -2.25)$

ג. עולה: $x > 1, x < -1$, יורדת: $-1 < x < 1, x \neq 0$ ד. $(0.5, 0), (2, 0)$ ה. $x=0$

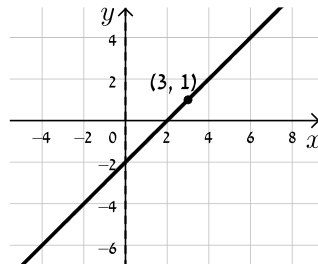
ו. להלן סקיצה:



26) א. $x \neq 3$ ב. אין ג. הפונקציה עולה בכל תחום הגדרתה

ד. $(0, -2), (2, 0)$ ה. אין, יש נקודת אי הגדרה ששיעוריה $(3, 1)$.

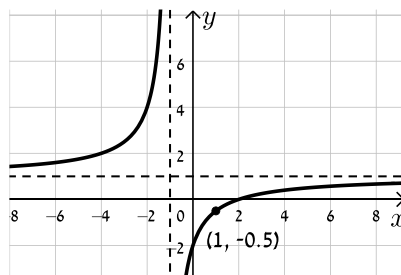
ו. להלן סקיצה:



27) א. $x \neq \pm 1$ ב. אין ג. הפונקציה עולה בכל תחום הגדרתה

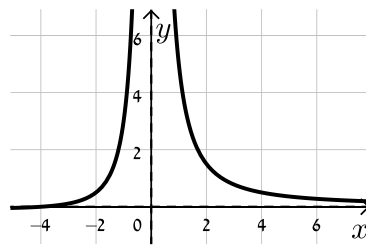
ד. $(0, -2), (2, 0)$ ה. $y=1, x=-1$, יש נקודת אי הגדרה: $\left(1, -\frac{1}{2}\right)$.

ו. להלן סקיצה:



28 א. $f(x) = \frac{x+4}{x^2}$, $a=1$ ב. עולה: $-8 < x < 0$ יורדת: $x < -8, x > 0$

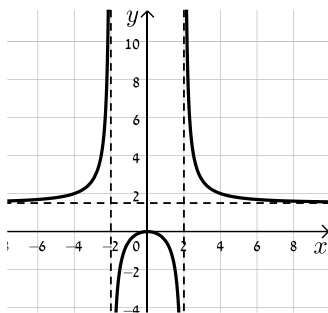
ג. $(-4, 0)$ ד. $x=0, y=0$



ה. להלן סקיצה:

29 א. $x \neq \pm 2$ ב. $\max(0, 0)$ ג. יורדת: $x > 0, x \neq 2$ עולה: $x < 0, x \neq -2$

ד. $(0, 0)$ ה. $x = \pm 2, y = 1.5$ ו. להלן סקיצה:



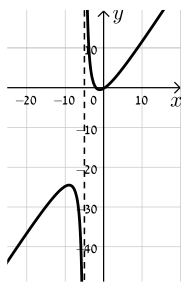
30 א. $a = \pm 2$ ב. $(1, 0), (0, 4)$

ג. המשיק: $y = -4x + 4$ אשר עובר בנקודה $(1, 0)$. נקודת החיתוך: $(1, 0)$.

31 א. $x \neq -5$ ב. $\min(-1, -0.5), \max(-9, -24.5)$

ג. עולה: $x < -9, x > -1$ יורדת: $-9 < x < -1$

ד. $(-2, 0), (\frac{1}{3}, 0), (0, -0.2)$ ה. $x = -5$ ו. להלן סקיצה:



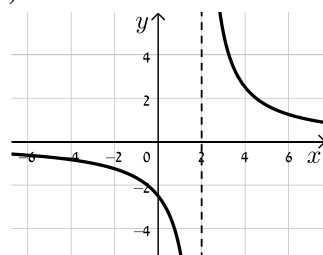
32 א. $x \neq 1$ ב. $x=1, y=1$ ג. $(a, 0), (0, a)$ ד. i. $a > 1$ ii. $a = 2$

33 א. $a = -3$ ב. i. $x \neq 2$ ii. $(0, -3)$ iii. $\max(0, -3), \min(4, 5)$

ג. $x < 2$ ד. iv. $x = 2$ ה. $-3 < k < 5$

34 א. $A = -1$ ב. $x \neq 2$ ד. $(0, -2.5)$

ו. לא



ה. להלן סקיצה:

35 א. $a = 3$, $f(x) = \frac{3x^2 - 20x + 28}{x^2 + 6}$, כל x .

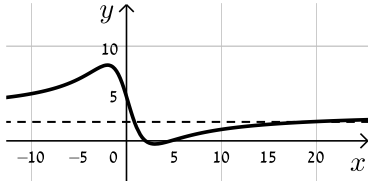
ב. $\min\left(3, -\frac{1}{3}\right)$, $\max(-2, 8)$

ד. $(2, 0)$, $\left(0, 4\frac{2}{3}\right)$, $\left(4\frac{2}{3}, 0\right)$

ו. $3, -\frac{1}{3}, k = 8$

ג. עולה: $x > 3$, $x < -2$, יורדת: $-2 < x < 3$

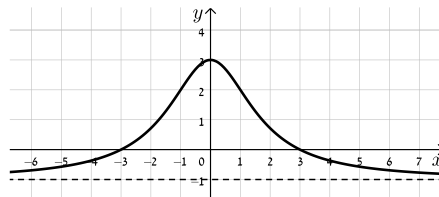
ה. להלן סקיצה:



ה. באף נקודה.

36 ב. $k = -3$ ג. $(3, 0), (-3, 0)$ ד. $y = -1$

ו. להלן סקיצה:



חקירת פונקציות שורש:

שאלות:

37 נתונה הפונקציה: $f(x) = \sqrt{x-3}$. חקור את הפונקציה לפי הסעיפים הבאים:

- א. מציאת תחום ההגדרה.
- ב. מציאת נקודות הקיצון של הפונקציה.
- ג. כתיבת תחומי העלייה והירידה של הפונקציה.
- ד. מציאת נקודות החיתוך של גרף הפונקציה עם הצירים.
- ה. מציאת אסימפטוטות המקבילות לצירים.
- ו. שרטוט סקיצה של גרף הפונקציה.

38 נתונה הפונקציה: $f(x) = (x-4)\sqrt{x-1}$. חקור את הפונקציה לפי הסעיפים הבאים:

- א. מציאת תחום ההגדרה.
- ב. מציאת נקודות הקיצון של הפונקציה.
- ג. כתיבת תחומי העלייה והירידה של הפונקציה.
- ד. מציאת נקודות החיתוך של גרף הפונקציה עם הצירים.
- ה. מציאת אסימפטוטות המקבילות לצירים.
- ו. שרטוט סקיצה של גרף הפונקציה.

39 נתונה הפונקציה: $f(x) = x\sqrt{6-x}$. חקור את הפונקציה לפי הסעיפים הבאים:

- א. מציאת תחום ההגדרה.
- ב. מציאת נקודות הקיצון של הפונקציה.
- ג. כתיבת תחומי העלייה והירידה של הפונקציה.
- ד. מציאת נקודות החיתוך של גרף הפונקציה עם הצירים.
- ה. שרטוט סקיצה של גרף הפונקציה.

40 נתונה הפונקציה: $f(x) = \frac{4\sqrt{x}}{x^2+3}$. חקור את הפונקציה לפי הסעיפים הבאים:

- א. מציאת תחום ההגדרה.
- ב. מציאת נקודות הקיצון של הפונקציה.
- ג. כתיבת תחומי העלייה והירידה של הפונקציה.
- ד. מציאת נקודות החיתוך של גרף הפונקציה עם הצירים.
- ה. מציאת אסימפטוטות המקבילות לצירים.
- ו. שרטוט סקיצה של גרף הפונקציה.

41 נתונה הפונקציה: $f(x) = \frac{\sqrt{9-x^2}}{x}$. חקור את הפונקציה לפי הסעיפים הבאים:

- א. מציאת תחום ההגדרה.
- ב. מציאת נקודות הקיצון של הפונקציה.
- ג. כתיבת תחומי העלייה והירידה של הפונקציה.
- ד. מציאת נקודות החיתוך של גרף הפונקציה עם הצירים.
- ה. מציאת אסימפטוטות המקבילות לצירים.
- ו. שרטוט סקיצה של גרף הפונקציה.

42 נתונה הפונקציה הבאה: $f(x) = \frac{\sqrt{x^2-2x}}{x^2}$.

- א. מה הוא תחום ההגדרה של הפונקציה?
- ב. מצא את נקודות קיצון של הפונקציה וקבע את סוגן.
- ג. מצא את נקודת החיתוך של גרף הפונקציה עם ציר ה- x .
- ד. סרטט סקיצה של גרף הפונקציה.

43 נתונה הפונקציה הבאה: $f(x) = \frac{x^2-4}{\sqrt{x}}$.

- א. מצא את נקודת החיתוך של הפונקציה עם ציר ה- x .
- ב. האם ניתן להעביר משיק לגרף הפונקציה המקביל לציר ה- x ? נמק והראה חישוב מתאים.
- ג. כתוב את משוואת המשיק לגרף הפונקציה העובר דרך נקודת החיתוך שלה עם ציר ה- x .
- ד. חשב את שטח המשולש הכלוא בין המשיק והצירים.

44 נתונה הפונקציה הבאה: $f(x) = \frac{x+3}{\sqrt{x}-1}$.

- מהו תחום הגדרה של הפונקציה?
- כמה נקודות יש לגרף הפונקציה שהמשיק העובר דרכן מקביל לציר ה- x ? מצא אותן.
- כתוב את משוואות המשיקים בנקודות שמצאת בסעיף הקודם.

45 נתונה הפונקציה: $f(x) = \frac{\sqrt{9-x^2}}{x}$. חקור לפי הסעיפים הבאים:

- מציאת תחום הגדרה.
- מציאת נקודות קיצון של הפונקציה.
- כתיבת תחומי העלייה והירידה של הפונקציה.
- מציאת נקודות החיתוך של גרף הפונקציה עם הצירים.
- מציאת אסימפטוטות המקבילות לצירים.
- סרטוט סקיצה של גרף הפונקציה.

46 נתונה הפונקציה הבאה: $f(x) = \frac{ax+6}{\sqrt{9-x^2}}$, פרמטר a .

- מעבירים משיק לגרף הפונקציה בנקודת החיתוך שלה עם ציר ה- y . ידוע כי הוא מקביל לישר: $3y-x=0$.
- מצא את ערך הפרמטר a .
 - כתוב את תחום ההגדרה של הפונקציה.
 - מצא את נקודת הקיצון של הפונקציה.
 - כתוב את התחומי העלייה והירידה של הפונקציה.

47 נתונות שתי הפונקציות הבאות: $f(x) = \frac{x}{\sqrt{x+k}}$, $g(x) = \frac{\sqrt{x-k}}{x}$ (k פרמטר חיובי).

- ידוע כי הפונקציות חותכות זו את זו בנקודה שבה: $x=0.8$.
- מצא את k .
 - האם הפונקציות נחתכות בנקודה נוספת מלבד לנקודה הנתונה? אם כן מצא אותה.
 - מצא את משוואת המשיק לגרף הפונקציה $f(x)$ בנקודה שבה: $x=0.52$.

48 נתונה הפונקציה הבאה: $f(x) = \frac{kx}{\sqrt{k-x^2}}$, פרמטר חיובי.

- א. ענה על הסעיפים הבאים:
- מהו תחום ההגדרה של הפונקציה? (בטא באמצעות k).
 - מהן האסימפטוטות האנכיות של הפונקציה?
- ב. הראה כי הפונקציה עולה עבור כל ערך של k בתחום הגדרתה.
- ג. כתוב את משוואת המשיק לגרף הפונקציה בנקודת החיתוך שלה עם ציר ה- x . (בטא באמצעות k).
- ד. המשיק אשר מצאת בסעיף הקודם חותך את אחת האסימפטוטות של הפונקציה בנקודה A. ידוע כי שטח המשולש הכלוא בין המשיק, ציר ה- x והאסימפטוטה הנ"ל הוא: $S = 4$ יח"ש. מצא את ערך הפרמטר k .

49 נתונה הפונקציה: $f(x) = \frac{x+2}{x+4}$. מגדירים פונקציה נוספת: $g(x) = \sqrt{f(x)}$.

- א. כתוב בצורה מפורשת את הפונקציה $g(x)$.
- ב. לפניך מספר טענות המתייחסות לפונקציות $f(x)$ ו- $g(x)$. קבע אילו מהטענות הבאות נכונות ואלו אינן נכונות. הצדק את קביעותיך באמצעות חישוב מתאים:
- לפונקציות תחום הגדרה זהה.
 - שתי הפונקציות עולות בכל תחום הגדרתן.
 - שתי הפונקציות חותכות את ציר ה- x באותה נקודה.
 - לשתי הפונקציות יש אסימפטוטה משותפת.
- ג. מצא את נקודות החיתוך של כל פונקציה עם ציר ה- y . אסף פתר את סעיפים א' ו-ב' והחליט לטעון את הטענה הבאה:
- היות והפונקציה $g(x)$ מוגדרת להיות: $g(x) = \sqrt{f(x)}$ אזי ניתן למצוא את שיעור ה- y של כל נקודה שעל גרף הפונקציה $f(x)$ ע"י כך שנמצא תחילה את שיעור ה- y של הנקודה בעלת אותו שיעור x על הגרף של $g(x)$ ונעלה אותה בריבוע.
- ד. האם אסף צודק? נמק בצורה איכותית (חישובים אינם נדרשים) את שיקולך.

50) לפניך הפונקציות הבאות: $f(x) = \frac{x}{\sqrt{x-1}}$, $g(x) = \frac{x}{\sqrt{x-1}}$

א. קבע אילו מהטענות הבאות נכונות ואלו אינן נכונות. הצדק את קביעותיך באמצעות חישוב מתאים:

i. לשתי הפונקציות יש את אותו תחום ההגדרה.

ii. לשתי הפונקציות יש נקודות קיצון הנמצאות על הישר: $y = x$.

iii. הפונקציות לא חותכות זו את זו.

מגדירים פונקציה נוספת והיא: $h(x) = (g(x))^2$.

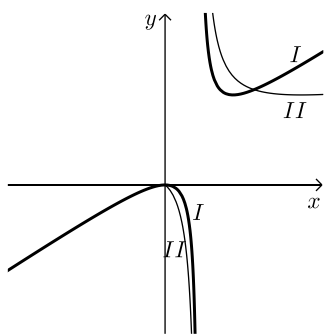
ב. כתוב באופן מפורש את הפונקציה החדשה: $h(x)$.

ג. האם תחום ההגדרה של הפונקציה $h(x)$ זהה לשל $g(x)$?

ד. באיור הסמוך ישנם שני גרפים.

קבע על סמך הסעיפים הקודמים איזו פונקציה כל גרף

מתאר מבין הפונקציות: $f(x)$, $g(x)$, $h(x)$. נמק את בחירותיך.



51) לפניך שלוש פונקציות: $f(x) = x^2 \sqrt{k-x^2}$, $g(x) = \frac{x^2}{\sqrt{k-x^2}}$, $h(x) = \frac{\sqrt{k-x^2}}{x^2}$. ($k > 0$)

א. קבע אילו מהטענות הבאות נכונות ואלו אינן נכונות. הצדק את קביעותיך באמצעות חישוב מתאים:

i. לפונקציות $f(x)$ ו- $g(x)$ תחום הגדרה זהה, השונה מתחום ההגדרה של $h(x)$.

ii. קיימת פונקציה אשר אינה חותכת את ציר ה- x כלל.

iii. הפונקציות: $h(x)$ ו- $g(x)$ הפוכות זו מזו בתחומי העלייה והירידה שלהן

(כאשר אחת עולה השנייה יורדת).

iv. לפונקציה: $f(x)$ יש נקודת קיצון אחת בלבד.

מסמנים נקודה $A(0, \sqrt{12})$ על ציר ה- y . ידוע כי מרחקה מאחת מנקודות החיתוך

של גרף הפונקציה $f(x)$ עם ציר ה- x שאינה בראשית הוא: $d = 6$.

ב. מצא את k .

ג. מצא את נקודות הקיצון של גרף

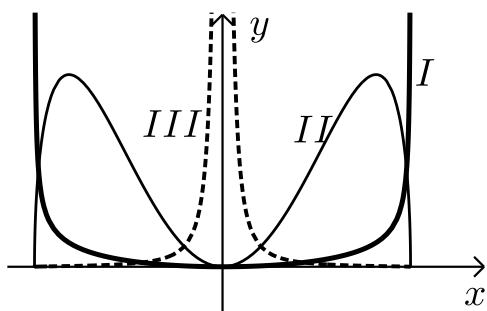
הפונקציה $f(x)$ וקבע את סוגן.

ד. לפניך איור ובו מסורטטות הסקיצות של

שלושת הפונקציות.

קבע עפ"י הסעיפים הקודמים איזה גרף

שייך לכל פונקציה.



תשובות סופיות:

(37) א. $x \geq 3$ ב. $\min(3,0)$ קצה ג. הפונקציה עולה בכל ת.ה.

ד. $(3,0)$ ה. אין. ו. להלן סקיצה:



(38) א. $x \geq 1$ ב. $\max(1,0)$, $\min(2,-2)$ קצה

ג. עולה: $x > 2$, יורדת: $1 < x < 2$ ד. $(1,0)$, $(4,0)$ ה. אין.

ו. להלן סקיצה:



(39) א. $x \leq 6$ ב. $\min(6,0)$, $\max(4,4\sqrt{2})$ קצה

ג. עלייה: $x < 4$, ירידה: $4 < x < 6$ ד. $(6,0)$, $(0,0)$

ה. להלן סקיצה:



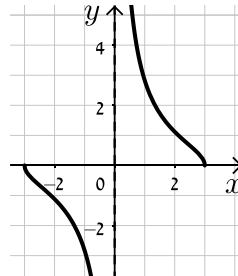
(40) א. $x \geq 0$ ב. $\min(0,0)$, $\max(1,1)$ קצה

ג. עולה: $0 < x < 1$, יורדת: $x > 1$ ד. $(0,0)$ ה. $y = 0$.

ו. להלן סקיצה:

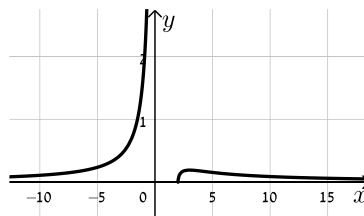


- (41)** א. $-3 \leq x \leq 3$ וגם $x \neq 0$ ב. $\max(-3,0)$ קצה, $\min(3,0)$ קצה
 ג. עולה: אף x , יורדת: $-3 \leq x \leq 3$, $x \neq 0$ ד. $(-3,0), (3,0)$



ה. $x=0$. ו. להלן סקיצה:

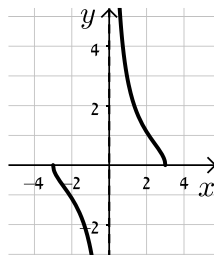
- (42)** א. $x < 0$, $x \geq 2$ ב. $\min(2,0)$, $\max\left(3, \frac{1}{\sqrt{27}}\right)$ ג. $(2,0)$ ד. להלן סקיצה:



- (43)** א. $(2,0)$ ב. לא ג. $y = 2\sqrt{2}x - 4\sqrt{2}$ ד. $S = 4\sqrt{2}$

- (44)** א. $x \neq 1$, $x \geq 0$ ב. $(9,6)$ ג. $y = 6$

- (45)** א. $-3 \leq x \leq 3$ וגם $x \neq 0$ ב. $\max(-3,0)$ קצה, $\min(3,0)$ קצה
 ג. עולה: אף x , יורדת: $-3 \leq x \leq 3$ וגם $x \neq 0$ ד. $(-3,0), (3,0)$



ה. $x=0$. ו. להלן סקיצה:

- (46)** א. $a=1$ ב. $-3 < x < 3$ ג. $(-1.5, \sqrt{3})$ ד. יורדת: $-3 < x < -1.5$, עולה: $-1.5 < x < 3$

- (47)** א. $k=0.48$ ב. כן, $(0.6, 0.57)$ ג. $y = 0.74x + 0.1352$

- (48)** א. i. $-\sqrt{k} < x < \sqrt{k}$ ii. $x = \pm\sqrt{k}$ ב. $f'(x) = \frac{k^2}{(k-x^2)^{1.5}} > 0$ ג. $y = \sqrt{k}x$ ד. $k=4$

$$g(x) = \sqrt{\frac{x+2}{x+4}} \quad \text{א. (49)}$$

ב. i. לא נכון ii. נכון

$$f(x) : \left(0, \frac{1}{2}\right), g(x) : \left(0, \frac{1}{\sqrt{2}}\right) \quad \text{ג.}$$

iii. נכון iv. נכון

ד. אסף צודק.

$$h(x) = \frac{x^2}{x-1} \quad \text{ב.}$$

iii. נכון

א. i. לא נכון ii. נכון (50)

$$\text{I} = h(x), \text{II} = f(x) \quad \text{ד.}$$

$$h(x) : x \neq 1, \text{ג.}$$

iv. נכון

iii. נכון

ii. לא נכון

i. לא נכון (51)

$$\text{ב. } k = 24 \quad \text{ג. } \min(0,0), \max(\pm 4, 32\sqrt{2})$$

$$\text{ד. } \text{I} = g(x), \text{II} = f(x), \text{III} = h(x)$$

תחומי קעירות ונקודות פיתול:

סיכום כללי:

תחומי קעירות – הגדרה:

- פונקציה $f(x)$ קעורה כלפי מטה (קמורה) בתחום $[x_0, x_1]$ אם לכל x בתחום הנ"ל המשיק לפונקציה נמצא מעל לגרף הפונקציה. כדי למצוא תחומי קעירות כלפי מטה יש למצוא תחום שבו: $f''(x) < 0$.
- פונקציה $f(x)$ קעורה כלפי מעלה (קעורה) בתחום $[x_0, x_1]$ אם לכל x בתחום הנ"ל המשיק לפונקציה נמצא מתחת לגרף הפונקציה. כדי למצוא תחומי קעירות כלפי מעלה יש למצוא תחום שבו: $f''(x) > 0$.

נקודת פיתול – הגדרות:

- נקודת פיתול היא נקודה שבה הפונקציה עוברת מתחום קעירות כלפי מטה לקעירות כלפי מעלה ולהיפך.
- נקודת פיתול מקיימת: $f''(x) = 0$ כאשר ערך הנגזרת השנייה משנה את סימנו בתחום שלפני ואחרי הנקודה המאפסת אותו.
- בנקודת פיתול המשיק לגרף הפונקציה חותך אותה ולא רק משיק לה מכיוון אחד.

שאלות:

(52) מצא את נקודות הפיתול ואת תחומי הקעירות של הפונקציה: $f(x) = x^4 - 6x^3 + 12x^2$.

(53) מצא את נקודות הפיתול ואת תחומי הקעירות של הפונקציה: $f(x) = \frac{3x-2}{x^2}$.

(54) מצא את נקודות הקיצון והפיתול של הפונקציה: $f(x) = \frac{2x}{\sqrt{x-1}}$.

(55) מצא את נקודות הקיצון והפיתול של הפונקציה: $f(x) = x(x-2)^3$.

56 נתונה הפונקציה: $f(x) = \frac{a}{x^2 + b}$, a, b פרמטרים.

הנקודה $(-1, 1)$ היא נקודת פיתול של הפונקציה.
מצא את ערכי הפרמטרים a, b .

57 נתונה הפונקציה: $f(x) = \frac{1}{x} - \frac{1}{x^2} + 2$. חקור את הפונקציה לפי הסעיפים הבאים:

- א. מציאת תחום הגדרה.
- ב. מציאת נקודות קיצון של הפונקציה.
- ג. כתיבת תחומי העלייה והירידה של הפונקציה.
- ד. מציאת נקודות החיתוך של גרף הפונקציה עם הצירים.
- ה. מציאת אסימפטוטות המקבילות לצירים.
- ו. מציאת נקודות פיתול.
- ז. מציאת תחומי הקעירות כלפי מעלה ומטה.
- ח. סרטוט סקיצה של גרף הפונקציה.

58 נתונה הפונקציה: $f(x) = \frac{2x}{x - \sqrt{x}}$. חקור את הפונקציה לפי הסעיפים הבאים:

- א. מציאת תחום הגדרה.
- ב. מציאת נקודות קיצון של הפונקציה.
- ג. כתיבת תחומי העלייה והירידה של הפונקציה.
- ד. מציאת נקודות החיתוך של גרף הפונקציה עם הצירים.
- ה. מציאת אסימפטוטות המקבילות לצירים.
- ו. מציאת נקודות פיתול.
- ז. מציאת תחומי הקעירות כלפי מעלה ומטה.
- ח. סרטוט סקיצה של גרף הפונקציה.

59) חקור את הפונקציות הבאות לפי הסעיפים הבאים :

- i. מציאת תחום הגדרה.
- ii. מציאת נקודות חיתוך עם הצירים.
- iii. מציאת נקודות קיצון וקביעת סוגן.
- iv. מציאת תחומי העלייה והירידה של הפונקציה.
- v. מציאת אסימפטוטות המקבילות לצירים.
- vi. מציאת נקודות הפיתול של הפונקציה.
- vii. מציאת תחומי הקעירות של הפונקציה.
- viii. סרטוט סקיצה של גרף הפונקציה.

$$f(x) = \frac{2x^2}{(x+1)^2} \quad \text{ב.} \qquad f(x) = \frac{x-1}{x^2} \quad \text{א.}$$

$$f(x) = \frac{x^3}{(x+1)^2} \quad \text{ד.} \qquad f(x) = \frac{x^3}{x^2-4} \quad \text{ג.}$$

$$f(x) = \frac{x^2-1}{(x-2)(x-5)} \quad \text{ו.} \qquad f(x) = \left(\frac{x+1}{x-1}\right)^3 \quad \text{ה.}$$

$$f(x) = \frac{x^3-x^2}{x^2-1} \quad \text{ח.} \qquad f(x) = \frac{x^2-4x+3}{x^2-4} \quad \text{ז.}$$

הערה: בסעיפים ו ו-ז יש לבצע חקירה ללא סעיפים vi ו-vii.

תשובות סופיות:

52 (1,7), (2,16) , קעירות כלפי מעלה : $x > 2$ או $x < 1$, קעירות כלפי מטה : $1 < x < 2$.

53 (2,1) , קעירות כלפי מעלה : $x > 2$, קעירות כלפי מטה : $0 \neq x < 2$.

54 קיצון : $\min(2,4)$, פיתול : $\left(4, \frac{8}{\sqrt{3}}\right)$.

55 קיצון : $\min\left(\frac{1}{2}, -\frac{27}{16}\right)$, פיתול : (1,-1), (2,0) .

56 $a = 4, b = 3$.

57 א. $x \neq 0$. ב. $\max\left(2, 2\frac{1}{4}\right)$. ג. עולה : $0 < x < 2$; יורדת : $x > 2, x < 0$.

ד. $\left(\frac{1}{2}, 0\right), (-1, 0)$. ה. $x = 0, y = 2$. ו. $\left(3, 2\frac{2}{9}\right)$.

ז. קעירות כלפי מעלה : $x > 3$, קעירות כלפי מטה : $0 \neq x < 3$.

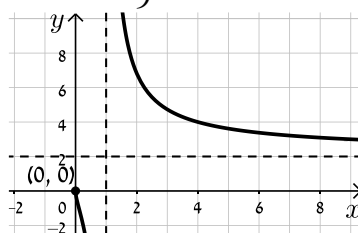


ח. להלן סקיצה :

58 א. $1 \neq x > 0$. ב. אין . ג. יורדת בכל תחום הגדרתה .

ד. אין . ה. $x = 1, y = 2$ נקודת אי הגדרה : (0,0) . ו. $\left(\frac{1}{9}, -1\right)$.

ז. קעירות כלפי מעלה : $x > 1$ או $0 < x < \frac{1}{9}$, קעירות כלפי מטה : $\frac{1}{9} < x < 1$.



ח. להלן סקיצה :

59 א. i. $x \neq 0$. ii. (1,0) . iii. $x = 0, y = 0$. iv. $\max(2, 0.25)$.

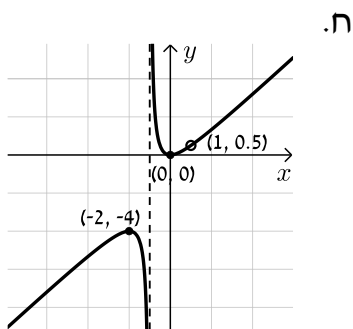
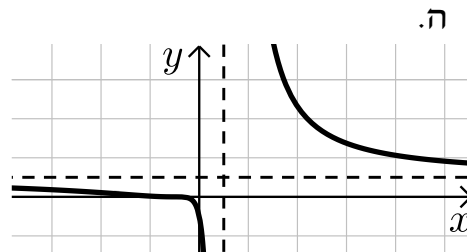
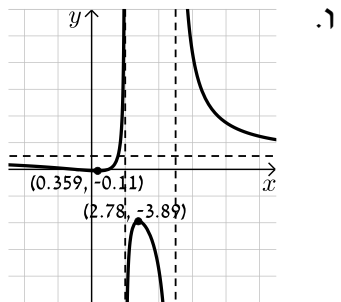
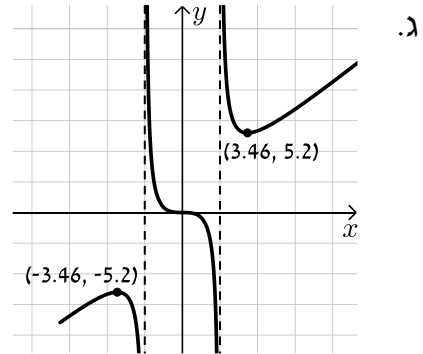
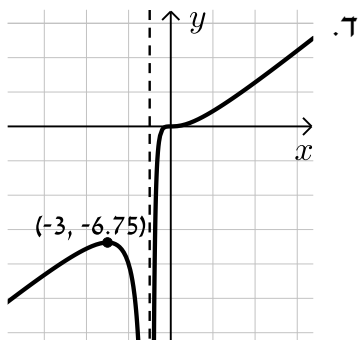
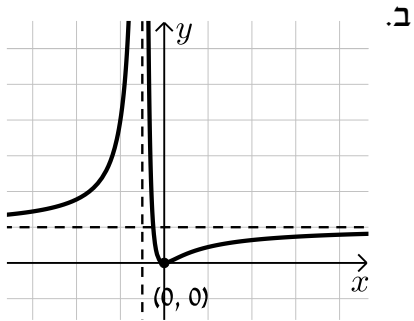
v. עולה : $0 < x < 2$, יורדת : $x < 0, x > 2$. vi. $\left(3, \frac{2}{9}\right)$.

vii. קעורה כלפי מעלה : $x > 3$, קעורה כלפי מטה : $0 < x < 3, x < 0$.

ב. i. $x \neq -1$. ii. (0,0) . iii. $x = -1, y = 2$. iv. $\min(0,0)$.

- v. עולה: $x < -1$, $x > 0$, יורדת: $-1 < x < 0$.vi $\left(\frac{1}{2}, \frac{2}{9}\right)$
- vii. קעורה כלפי מעלה: $-1 < x < \frac{1}{2}$, קעורה כלפי מטה: $x < -1$, $x < \frac{1}{2}$
- ג. i. $x \neq \pm 2$.ii $(0,0)$.iii $x = \pm 2$
- iv. $\min(\sqrt{12}, 5.2)$, $\max(-\sqrt{12}, -5.2)$
- v. עולה: $x > \sqrt{12}$, $x < -\sqrt{12}$, יורדת: $2 < x < \sqrt{12}$, $-2 < x < 2$, $-\sqrt{12} < x < -2$.vi $(0,0)$
- vii. קעורה כלפי מעלה: $x > 2$, $-2 < x < 0$, קעורה כלפי מטה: $0 < x < 2$, $x < -2$
- ד. i. $x \neq -1$.ii $(0,0)$.iii $x = -1$.iv $\max(-3, -6.75)$
- v. עולה: $x > -1$, $x < -3$, יורדת: $-3 < x < -1$.vi $(0,0)$
- vii. קעורה כלפי מעלה: $x > 0$, קעורה כלפי מטה: $-1 < x < 0$, $x < -1$
- ה. i. $x \neq 1$.ii $(-1,0), (0,-1)$.iii $x = 1, y = 1$.iv אין
- v. יורדת בכל ת.ה. .vi $\left(-3, \frac{1}{8}\right), (-1,0)$
- vii. קעורה כלפי מעלה: $-3 < x < -1$, $x > 1$, קעורה כלפי מטה: $-1 < x < 1$, $x < -3$
- ו. i. $x \neq 2, 5$.ii $(0,-0.1), (-1,0), (1,0)$.iii $x = 2, x = 5, y = 1$
- iv. $\min(0.359, -0.11)$, $\max(2.78, -3.89)$
- v. עולה: $2 < x < 2.78$, $0.359 < x < 2$, יורדת: $x > 5$, $2.78 < x < 5$, $x < 0.359$
- ז. i. $x \neq \pm 2$.ii $(3,0), (1,0), (0,-0.75)$.iii $x = \pm 2, y = 1$
- iv. אין .v יורדת בכל ת.ה.
- ח. i. $x \neq \pm 1$.ii $(0,0)$.iii $x = -1$.iv $\min(0,0)$, $\max(-2,-4)$
- v. עולה: $x > 0$, $x < -2$, $x \neq 1$, יורדת: $-1 < x < 0$, $-2 < x < -1$
- vi. אין .vii קעורה כלפי מעלה: $x > -1$, $x \neq 1$, קעורה כלפי מטה: $x < -1$

סקיצות:



חקירת פונקציה עם פרמטר:

סיכום כללי:

סיווג נקודות קיצון באמצעות y'' :

אם הנקודה $A(x_1, y_1)$ היא נקודת קיצון אז :

- אם $f''(x_1) > 0$ הנקודה $A(x_1, y_1)$ היא נקודת מינימום.
- אם $f''(x_1) < 0$ הנקודה $A(x_1, y_1)$ היא נקודת מקסימום.

שאלות:

(1) מצא וסווג את נקודות הקיצון של הפונקציה: $f(x) = x^3 - 12x$.

(2) מצא וסווג את נקודות הקיצון של הפונקציה: $f(x) = x^2 - 6x - 16$.

(3) מצא וסווג את נקודות הקיצון של הפונקציה: $f(x) = x^3 - 3b^2x$, $b > 0$, פרמטר. שרטט סקיצה של גרף הפונקציה.

(4) נתונה הפונקציה: $f(x) = \frac{2x}{a^2 + x^2}$ ($a > 0$). חקור לפי הסעיפים הבאים:

- א. מציאת תחום ההגדרה.
- ב. מציאת נקודות קיצון של הפונקציה.
- ג. כתיבת תחומי העלייה והירידה של הפונקציה.
- ד. מציאת נקודות החיתוך של גרף הפונקציה עם הצירים.
- ה. מציאת אסימפטוטות המקבילות לצירים.
- ו. שרטוט סקיצה של גרף הפונקציה.

(5) נתונה הפונקציה: $f(x) = \frac{1-x^2}{(x-b)^2}$, $(b > 1)$. חקור לפי הסעיפים הבאים:

- א. מציאת תחום ההגדרה.
- ב. מציאת נקודות קיצון של הפונקציה.
- ג. כתיבת תחומי העלייה והירידה של הפונקציה.
- ד. מציאת נקודות החיתוך של גרף הפונקציה עם הצירים.
- ה. מציאת אסימפטוטות המקבילות לצירים.
- ו. שרטוט סקיצה של גרף הפונקציה.

(6) נתונה הפונקציה: $f(x) = 4x\sqrt{b^2 - x^2}$, $(b > 0)$.

חקור לפי הסעיפים הבאים:

- א. מציאת תחום ההגדרה.
- ב. מציאת נקודות קיצון של הפונקציה.
- ג. כתיבת תחומי העלייה והירידה של הפונקציה.
- ד. מציאת נקודות החיתוך של גרף הפונקציה עם הצירים.
- ה. שרטוט סקיצה של גרף הפונקציה.

(7) נתונה הפונקציה: $f(x) = \frac{x^2 - m}{ax - 4}$, a, m פרמטרים קבועים כאשר: $a > 0$.

ידוע כי אחת מנקודות הקיצון של הפונקציה נמצאת על ציר ה- y .

- א. מצא את הערך של הפרמטר m .
- ב. הצב את הערך של m שמצאת בסעיף א' והבא באמצעות a את:
 - i. תחום ההגדרה של הפונקציה.
 - ii. נקודות הקיצון של הפונקציה וקבע את סוגן.
 - iii. האסימפטוטות לגרף הפונקציה המקבילות לצירים.
- ג. סרטט סקיצה וסמן בה את נקודות הקיצון ואת משוואות האסימפטוטות שהבעת באמצעות a בסעיף הקודם.
- ד. ידוע כי נקודת הקיצון שאינה על ציר ה- y נמצאת במרחקים שווים מהצירים. מצא את הערך של הפרמטר a .
- ה. נתון הישר: $y = k$. מצא עבור אילו ערכים של k אין לישר ולגרף הפונקציה נקודות משותפות כלל.

תשובות סופיות:

(1) $\min(2, -16)$, $\max(-2, 16)$

(2) $\min(3, -25)$

(3) $\min(b, -2b^3)$, $\max(-b, 2b^3)$

(4) א. כל x ב. $\max\left(a, \frac{1}{a}\right)$, $\min\left(-a, -\frac{1}{a}\right)$

ג. עולה: $-a < x < a$ יורדת: $x < -a$, $x > a$

ד. $(0, 0)$ ה. אסימפטוטה אופקית: $y = 0$

(5) א. $x \neq b$ ב. $\max\left(\frac{1}{b}, \frac{1}{b^2 - 1}\right)$ ג. עולה: $x > b$, $x < \frac{1}{b}$ יורדת: $\frac{1}{b} < x < b$

ד. $\left(0, \frac{1}{b^2}\right)$, $(-1, 0)$, $(1, 0)$ ה. $x = b$, $y = -1$

(6) א. $-b \leq x \leq b$ ב. $\min\left(-\frac{b}{\sqrt{2}}, -2b^2\right)$, $\max\left(\frac{b}{\sqrt{2}}, 2b^2\right)$, $\min(-b, 0)$ קצה,

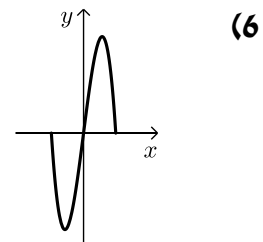
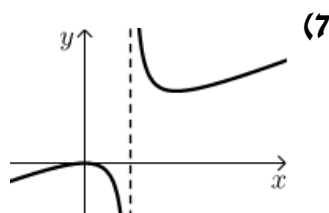
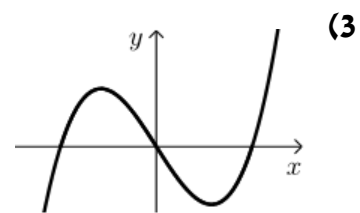
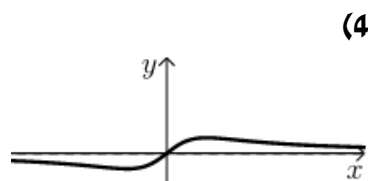
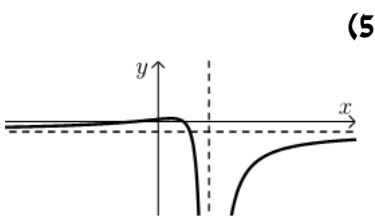
ג. עולה: $-\frac{b}{\sqrt{2}} < x < \frac{b}{\sqrt{2}}$, יורדת: $\frac{b}{\sqrt{2}} < x < b$, $-b < x < -\frac{b}{\sqrt{2}}$

ד. $(b, 0)$, $(-b, 0)$, $(0, 0)$

(7) א. $m = 0$ ב. $x \neq \frac{4}{a}$ ב. ii. $\max(0, 0)$, $\min\left(\frac{8}{a}, \frac{16}{a^2}\right)$

ג. iii. $x = \frac{4}{a}$ ד. $a = 2$ ה. $0 < k < 4$

סקיצות לשאלות:



פונקציות ללא תבנית מפורשת:

סיכום כללי:

הגדרת פונקציה:

- פונקציה f היא התאמה בין ערך x לערך y ומסומנת באופן הבא: $f: x \rightarrow y$.
- כך שלכל x מתאים ערך אחד בלבד של y . סימון אחר: $y = f(x)$.
- הנגזרת של פונקציה $f(x)$ מסומנת $f'(x)$.

כללי הגזירה לפי כלל השרשרת:

- סימון הנגזרת: $(f(x))' = f'(x)$
- גזירה של פונקציה בחזקה: $(f^2(x))' = 2f(x)f'(x)$
- גזירה של הרכבת פונקציות: $(f(g(x)))' = f'(g(x)) \cdot g'(x)$

שאלות:

- (1) הפונקציה $f(x)$ מקיימת: $f(1) = 3$ ו- $f'(1) = -2$.
חשב את ערכי הביטויים הבאים:

א. $f(1) + 4$

ב. $f'(1) + 4$

ג. $\frac{f(1)+1}{f'(1)-1}$

ד. $\sqrt{f(1)+f'(1)}$

- (2) נתונה פונקציה f המקיימת: $f(4) = 0$ ו- $f'(4) = 1$.

מגדירים: $g(x) = 2x + f(2x)$.

חשב את $g(2)$ ואת $g'(2)$.

- (3) נתונה פונקציה המקיימת: $f(8) = -1$ ו- $f'(8) = 1$.
- א. נתון: $g(x) = x^2 \sqrt{f(4x) + f'(x+6)}$. חשב את $g(2)$.
- ב. נתון: $h(x) = \frac{f(x+2) + x + 2}{f'(14-x) - 14 + x}$. חשב את $h(6)$.
- (4) נתונה פונקציה המקיימת: $f(9) = -4$, $f'(9) = 3$.
- מגדירים: $g(x) = f^2(3x) + f'(x^2)$. חשב את $g(3)$.
- (5) פונקציה f מקיימת: $f(4) = 2$, $f'(4) = 1$.
- מגדירים: $g(x) = f^2(x) + f(x) + x$.
- חשב את $g(4)$ ואת $g'(4)$.
- (6) פונקציה f מקיימת: $f(1) = -3$, $f'(1) = 3$. מגדירים: $g(x) = \frac{x \cdot f(x)}{x + f(x)}$.
- חשב את $g(1)$ ואת $g'(1)$.
- (7) פונקציה f מקיימת: $f(-2) = 6$, $f'(-2) = 2$. מגדירים: $g(x) = \sqrt{f^2(x) + 1}$.
- חשב את $g(-2)$ ואת $g'(-2)$.
- (8) פונקציה f מקיימת: $f\left(\frac{1}{2}\right) = 3$, $f'\left(\frac{1}{2}\right) = \frac{4}{3}$. מגדירים: $g(x) = 3x \cdot f(2x)$.
- חשב את $g\left(\frac{1}{4}\right)$ ואת $g'\left(\frac{1}{4}\right)$.
- (9) פונקציה f מקיימת: $f(6) = \frac{2}{3}$, $f'(6) = -\frac{3}{2}$. מגדירים: $g(x) = \frac{x+3+f(x+3)}{f(2x)+3}$.
- חשב את $g(3)$ ואת $g'(3)$.

(10) נתונה פונקציה המקיימת: $f(8) = -3$. מגדירים: $g(x) = \frac{f(4x)+1}{f(x+6)+2}$.

א. חשב את $g(2)$.

ב. חשב את $f'(8)$ אם ידוע כי: $g'(2) = 1$.

ג. חשב את $f'(8)$ אם ידוע כי: $g'(2) = (f'(8))^2$ וכי $f'(8) < 0$.

(11) נתונה פונקציה המקיימת: $f(3) = -2$.

מגדירים: $g(x) = \frac{x^2 \cdot f(x-2)}{f(2x-7)}$ וידוע כי $g'(5) = -15$.

חשב את $g(5)$ ואת $f'(3)$.

(12) נתונה פונקציה שמקיימת: $f(4) = \frac{1}{2}$.

מגדירים: $g(x) = x^2 \cdot f(x^2) + f'^2(x^2)$.

א. הבע את $g'(x)$ באמצעות f .

ב. חשב את $g(-2)$ ואת $g(2)$ אם ידוע כי $f'(4) = 1$.

ג. חשב את $f'(4)$ אם ידוע כי $g'(2) = 11$ ו- $f''(4) = \frac{1}{4}$.

