

# כימיה

פרק 7 - חמצון-חיזור

תוכן העניינים

1. תגובת חמצון-חיזור - מושגי יסוד..... 1
2. יישום של תהליכי תמזור - תאים חשמליים..... 5

## תגובת חמצון-חיזור – מושגי יסוד

### שאלות

1) נתונה שרשרת תגובות:  $\text{H}_2\text{SO}_4 \xrightarrow{A} \text{H}_2\text{SO}_3 \xrightarrow{B} \text{H}_2\text{S}_2\text{O}_3 \xrightarrow{C} \text{H}_2\text{S}$  : מהי הקביעה הנכונה:

- א.  $A$  ,  $B$  ו- $C$  הם חומרים מחמצנים.
- ב.  $A$  ,  $B$  ו- $C$  הם חומרים מחזרים.
- ג.  $A$  ו- $B$  הם חומרים מחזרים, אך  $C$  חומר מחמצן.
- ד.  $A$  ו- $B$  הם חומרים מחמצנים, אך  $C$  חומר מחזר.

2) נתונים ההיגדים שמתייחסים לתגובה  $3\text{N}_2\text{O}_3 \rightarrow \text{N}_2\text{O}_5 + 4\text{NO}$

1. 0.2 מול מחזר מסרו 0.4 מול אלקטרונים.
  2. 0.2 מול מחזר מגיבים עם 0.2 מולי מחמצן.
  3. בתהליך זה  $\text{N}_2\text{O}_3$  הוא מחמצן ומחזר.
  4. 0.1 מול מחמצן קיבלו 0.2 מול אלקטרונים.
  5. אף אחד מההיגדים הוא לא נכון.
- אילו מההיגדים נכונים:

- א. 1 ו-4.
- ב. 2 ו-3.
- ג. 5 בלבד.
- ד. 3 ו-4.
- ה. 3 בלבד.

3) נתונה תגובת חמצון-חיזור:  $2\text{NO}_{(g)} + 2\text{H}_{2(g)} \rightarrow 2\text{H}_2\text{O}_{(g)} + \text{N}_{2(g)}$  : מספר האלקטרונים שעוברים ממחזר למחמצן בתגובה זו הוא:

- א. 1
- ב. 2
- ג. 3
- ד. 4

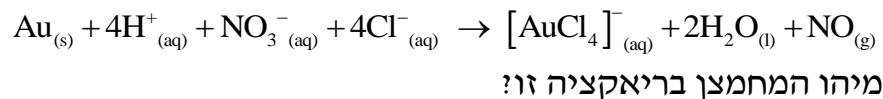
4) מספר החמצון של היסוד vanadium במינרל  $\text{Rb}_4\text{Na}[\text{HV}_{10}\text{O}_{28}]$  הוא:

- א. -6
- ב. +8
- ג. +3
- ד. +5

5) בריאקציה מסוימת היון  $\text{SO}_3^{2-}$  משתנה והופך ליון  $\text{S}_2\text{O}_4^{2-}$ . לפיכך, ניתן לומר ש:

- אטומי הגופרית עוברים חמצון.
- אטומי הגופרית הם המחמצנים.
- אטומי החמצן עוברים חיזור.
- שינוי זה איננו חלק מתהליך חמצון חיזור.

6) זהב מגיב עם תערובת של חומצה כלורית וחומצה חנקתית בהתאם למשוואה:



- Au
- $\text{H}^+$
- $\text{NO}_3^-$
- $\text{Cl}^-$

7) סמנו את התשובה שבה מספר החמצון של היסוד המסומן בקו ב אינו נכון:

- $\text{MnO}_2$ , 4+
- $\text{SO}_3^{2-}$ , 4+
- $\text{ClO}_3^-$ , 7+
- $\text{Cr}_2\text{O}_3$ , 3+

8) איזו מבין התגובות הבאות איננה תגובת חמצון-חיזור?

- $\text{MnO}_4^- + 5\text{Fe}^{2+} + 8\text{H}^+ \rightarrow 5\text{Fe}^{3+} + \text{Mn}^{2+} + 4\text{H}_2\text{O}$
- $\text{Au} + 4\text{H}^+ + \text{NO}_3^- + 4\text{Cl}^- \rightarrow [\text{AuCl}_4]^- + 2\text{H}_2\text{O} + \text{NO}$
- $6\text{HF} + \text{Al}(\text{OH})_3 + 3\text{NaOH} \rightarrow \text{Na}_3\text{AlF}_6 + 6\text{H}_2\text{O}$
- $2\text{H}_2 + \text{O}_2 \rightarrow 2\text{H}_2\text{O}$

9) ל-50 מ"ל תמיסת  $\text{CuBr}_2$ , בריכוז 0.4 M, הזרימו 2.5 ליטר כלור גזי בתנאי החדר.

- א. רשמו ניסוח התהליך.
- ב. חשבו את מס' מולי האלקטרונים שהשתתפו בתהליך.
- ג. 1. לתמיסה שהתקבלה נוספה תמיסת  $\text{AgNO}_3$ . מהו המשקע שיתקבל?  
רשמו ניסוח התהליך.
2. איזה נפח תמיסת  $\text{AgNO}_3$  0.1 M יידרש לשיקוע מלא? פרטו.
- ד. לאחר סינון המשקע, הוסף מגנזיום לתמיסה.
  1. רשמו ניסוח לתהליך שהתרחש.
  2. מהו מספר מולי האלקטרונים שהשתתפו בתהליך הנ"ל?  
(הניחו שכל החומרים הגיבו עד הסוף)

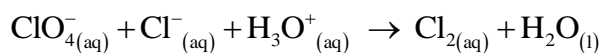
10) להלן שני ניסויים:

- בניסוי 1 הוסיפו גז כלור לתמיסת נחושת ברומית ( $\text{CuBr}_2$ ) בריכוז 1M, וכתוצאה מכך התרחשה תגובה.
- בניסוי 2 הוסיפו אלומיניום ( $\text{Al}_{(s)}$ ) לתמיסת נחושת ברומית ( $\text{CuBr}_2$ ) בריכוז 1M, וכתוצאה מכך והתרחשה תגובה.
  - א. עבור כל ניסוי:
    1. ציינו מהו המחמצן ומהו המחזור.
    2. נסחו ואזנו את תגובת חמצון-חיזור.

להלן שני ניסויים נוספים:

- בניסוי 3 הוסיפו נחושת ( $\text{Cu}_{(s)}$ ) לתמיסת  $\text{AgNO}_3$  בריכוז 1M והתרחשה התגובה  $\text{Cu}_{(s)} + \text{Ag}^+_{(aq)} \rightarrow \text{Cu}^{+2}_{(aq)} + \text{Ag}_{(s)}$ .
- בניסוי 4 הוסיפו אלומיניום ( $\text{Al}_{(s)}$ ) לתמיסת  $\text{KCl}$  בריכוז 1M, ולא התרחשה תגובה.
  - ב. 1. דרגו את היסודות Cu, Al, K, Ag על פי נטייתם לחזור.
  2. האם תתרחש תגובה בין תמיסת  $\text{AgNO}_3$  ובין  $\text{Al}_{(s)}$ ? נמקו.

11) נתון הניסוח הבלתי-מאוזן הבא:



- א. רשמו ניסוח מאוזן וקבע את המחמצן ואת המחזור.
- ב. כמה אלקטרונים עוברים בתהליך שבו נוצרים 5 ליטר כלור בתנאי STP?

12) אזנו את המשוואה הבאה, ציינו את המחמצן והמחזור, וקבעו ואת מספר מולי האלקטרונים שמתתפים בתגובה



## תשובות סופיות

(1) ב

(2) ד

(3) ד

(4) ד

(5) ב

(6) ג

(7) ג

(8) ג

(9) א.  $2\text{Br}^-_{(\text{aq})} + \text{Cl}_{2(\text{g})} \rightarrow \text{Br}_{2(\text{l})} + 2\text{Cl}^-_{(\text{aq})}$  ב. 0.04 מול.ג. 1.  $\text{AgCl}$  2. 0.4 ליטר.ד. 1.  $\text{Cu}^{2+}_{(\text{aq})} + \text{Mg}_{(\text{s})} \rightarrow \text{Cu}_{(\text{s})} + \text{Mg}^{2+}_{(\text{aq})}$  2. 0.04 מול.(10) א. 1.  $\text{Br}^-$  מחזור,  $\text{Cl}_2$  מחמצן,  $\text{Al}$  מחזור,  $\text{Cu}^{2+}$  מחמצן.ב. 1.  $\text{K} > \text{Al} > \text{Cu} > \text{Ag}$  2. כן.

(11) 0.39 מול.

(12) 2 מול.

## יישום של תהליכי חֶמְזוֹר – תאים חשמליים

### שאלות

1) כמה זמן יש להפעיל תא אלקטרוליטי, בכדי לקבל ציפוי כסף מתכתי, שמסתו 0.8 גרם, אם מועבר זרם של 2.5 אמפר בתוך תמיסה מימית של  $\text{AgNO}_3$  ?

א. פחות משתי דקות.

ב. 9.54 דקות.

ג. 4.76 דקות.

ד. 4.76 שעות.

2) נתונים:  $E^0(\text{I}_2/\text{I}^-) = 0.54 \text{ V}$ ,  $E^0(\text{Br}_2/\text{Br}^-) = 1.09 \text{ V}$

$E^0(\text{Ag}^+/\text{Ag}) = 0.8 \text{ V}$ ,  $E^0(\text{Pb}^{2+}/\text{Pb}) = -0.13 \text{ V}$ ,  $E^0(\text{Zn}^{2+}/\text{Zn}) = -0.76 \text{ V}$

בהתבסס על טבלת פוטנציאלי החיזור הסטנדרטיים, מי מהחומרים המופיעים

להלן יכולים לחזור  $\text{I}_{2(s)}$  ל-  $\text{I}^-_{(aq)}$  ?

א.  $\text{Br}^-_{(aq)}$

ב.  $\text{Ag}_{(s)}$

ג.  $\text{Pb}_{(s)}$

ד.  $\text{Zn}^{2+}_{(aq)}$

3) חשבו את הפרש הפוטנציאליים  $\Delta \varepsilon$  ב-  $25^\circ\text{C}$  של תא אלקטרוכימי, המורכב

מחצי תא אבץ, שבו יוני אבץ בריכוז  $0.01 \text{ M}$ , וחצי תא נוסף, שבו  $\text{Br}_2$  נוזלי

ובתוכו יוני  $\text{Br}^-$  בריכוז  $10^{-4} \text{ M}$ .

נתון כי  $E^0(\text{Br}_2/\text{Br}^-) = 1.09 \text{ V}$ ,  $E^0(\text{Zn}^{2+}/\text{Zn}) = -0.76 \text{ V}$

א.  $1.78 \text{ V}$

ב.  $0.13 \text{ V}$

ג.  $2.145 \text{ V}$

ד.  $1.72 \text{ V}$

4) תא אלקטרוכימי מורכב מאלקטרודת אבץ ואלקטרודת עופרת. סמנו את המשפט שאינו נכון.



א. הקתודה היא אלקטרודת האבץ.

ב. הריאקציה הספונטאנית מתרחשת בכיוון הרשום.

ג. אלקטרודת העופרת טעונה במטען חיובי.

ד. האבץ עובר חמצון בתהליך הזה.

5) בהתבסס על פוטנציאלי החיזור הסטנדרטיים שלהלן, סמנו את המשפט הנכון.

$$E^0(\text{Mg}^{2+}/\text{Mg}) = -2.36 \text{ V}, E^0(\text{Cu}^{2+}/\text{Cu}) = 0.34 \text{ V}$$

$$E^0(\text{Ag}^+/\text{Ag}) = 0.8 \text{ V}, E^0(\text{Fe}^{2+}/\text{Fe}) = -0.44 \text{ V}, E^0(\text{Zn}^{2+}/\text{Zn}) = -0.76 \text{ V}$$

א. מגנזיום מתכתי (Mg) לא מגיב עם יוני אבץ ( $\text{Zn}^{2+}$ ) בתמיסה מימית.

ב. נחושת מתכתית (Cu) מגיבה עם יוני אבץ ( $\text{Zn}^{2+}$ ) בתמיסה מימית.

ג. ברזל מתכתי (Fe) מגיב עם יוני אבץ ( $\text{Zn}^{2+}$ ) בתמיסה מימית.

ד. ברזל מתכתי (Fe) מגיב עם יוני מימן ( $\text{H}^+$ ) בתמיסה מימית.

6) חשבו את הפוטנציאל הסטנדרטי  $\varepsilon^0$  עבור חצי התא  $\text{Fe}^{3+}_{(\text{aq})} + 3\text{e}^- \rightarrow \text{Fe}_{(\text{s})}$ .

השתמשו בפוטנציאלי החיזור הסטנדרטיים של  $\text{Fe}^{2+}/\text{Fe}$  ושל  $\text{Fe}^{3+}/\text{Fe}^{2+}$ .

$$E^0(\text{Fe}^{2+}/\text{Fe}) = -0.44 \text{ V}, E^0(\text{Fe}^{3+}/\text{Fe}^{2+}) = 0.77 \text{ V}$$

א. 0.33 volt

ב. -0.33 volt

ג. -0.037 volt

ד. 1.21 volt

7) בהתבסס על פוטנציאלי החיזור הסטנדרטיים, מהו קבוע שיווי המשקל ב-



$$E^0(\text{Cu}^{2+}/\text{Cu}) = 0.34 \text{ V}, E^0(\text{Pb}^{2+}/\text{Pb}) = -0.13 \text{ V}$$

א.  $1.17 \cdot 10^{-16}$

ב. 0.343

ג.  $1.31 \cdot 10^{-8}$

ד.  $1.43 \cdot 10^{-7}$

8) תא ריכוזי של מימן משמש ככלי למדידת pH. מה יהיה ה-pH באנודה בתא המפורט להלן? מתח התא שווה ל-0.122 Volt ב-25°C, ונתון כי

$$\text{Pt, H}_2 (1 \text{ atm}) / \text{H}^+ (\text{pH}=? ) \parallel \text{H}^+ (1\text{M}) / \text{H}_2 (1 \text{ atm}), \text{Pt}$$

א. pH = 1.03

ב. pH = 4.75

ג. pH = 2.068

ד. pH = 4.12

9) נתון התא האלקטרוכימי  $\text{Fe}^{2+} (1\text{M}) / \text{Fe}^{3+} (1\text{M}) \parallel \text{Cu}^{2+} (1\text{M}) / \text{Cu}$  איזו מבין הפעולות הבאות תגרום לעלייה הגדולה ביותר במתח התא?

א. הורדת ריכוז יוני הנחושת פי 2.

ב. הורדת ריכוז יוני  $\text{Fe}^{2+}$  פי 2.

ג. הכפלת ריכוז יוני הנחושת (פי 2).

ד. הכפלת ריכוז יוני  $\text{Fe}^{2+}$  (פי 2).

10) נתון תא אלקטרוכימי שבו האנודה היא  $\text{Zn} / \text{Zn}^{+2} (1.0\text{M})$  ( $\mathcal{E}_{\text{Zn}^{+2}(1.0\text{M})/\text{Zn}}^0 = -0.76 \text{ V}$ ). מהו צריך להיות חצי התא של הקטודה, כדי שהפוטנציאל של התא כולו יהיה הגבוה ביותר?

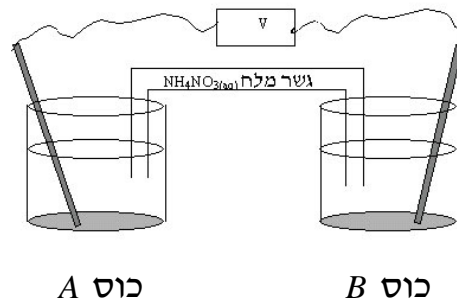
א.  $\mathcal{E}_{\text{Mg}^{+2}(1.0\text{M})/\text{Mg}}^0 = -2.36 \text{ V}$

ב.  $\mathcal{E}_{\text{Cd}^{+2}(1.0\text{M})/\text{Cd}}^0 = -0.40 \text{ V}$

ג.  $\mathcal{E}_{\text{Cu}^{+2}(1.0\text{M})/\text{Cu}}^0 = -0.34 \text{ V}$

ד.  $\mathcal{E}_{\text{Pt}^{+2}(1.0\text{M})/\text{Pt}}^0 = -1.20 \text{ V}$

11) נתון תא אלקטרוכימי :



כוס A (האנודה) מכילה תמיסת  $Mg(NO_3)_2$  (קל תמס) ואלקטרודת מגנזיום במשקל 12.30 גרם. כוס B (הקטודה) מכילה תמיסת  $Cu(NO_3)_2$  (קל תמס) ואלקטרודת נחושת במשקל 12.30 גרם. התא פעל במשך 15 דקות ולאחר מכן נשקלו האלקטרודות. מהו המשפט **נכון** :

- המסה של שתי האלקטרודות יחד שווה ל- 24.60 גרם.
- המסה של שתי האלקטרודות יחד קטנה מ- 24.60 גרם.
- המסה של שתי האלקטרודות יחד גדולה מ- 24.60 גרם.
- אי אפשר לקבוע כי חסרים נתונים.

12) עבור תגובת חמצון-חיזור  $Ni_{(s)} + Sn^{+2}_{(aq)} \rightleftharpoons Ni^{+2}_{(aq)} + Sn_{(s)}$ , ערכו של קבוע שיווי

המשקל (לפי הריכוזים) בטמפרטורת החדר שווה ל-  $5.00 \cdot 10^3$ .

נתון כי  $\epsilon^0 = -0.140 V$   $Sn^{+2} + 2e \rightleftharpoons Sn$

א. חשבו את פוטנציאל החיזור הסטנדרטי עבור יוני ניקל.

נתון התא  $Ni_{(s)} / Ni^{+2}_{(aq)} (1.00 \cdot 10^{-3} M) // Sn^{+2} (9.00 \cdot 10^{-2} M) / Sn$

- חשבו את המתח שנמדד ברגע חיבור התא.
- חצי תא סטנדרטי של ניקל (Ni) חובר לחצי תא סטנדרטי של מימן. עקב חיבור התא נמדד מתח חיובי.

(חצי תא מימן:  $2H^+_{(aq)} + 2e \rightleftharpoons H_{2(g)}$   $\epsilon^0 = 0.00 V$ )

- איזה מתח נמדד ברגע חיבור התא?
- האם ה-pH בתא המימן עלה, ירד או נשאר קבוע? נמקו.
- רשמו את התגובה המאוזנת שמתרחשת עקב חיבור שני חצאי-התאים.
- איזה יון עבר חיזור ומהו המחזור בתגובה זו?

13) נתונות שתי מחציות התגובה ופוטנציאלי החיזור התקניים שלהן:

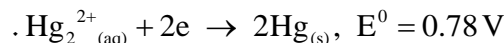
חצי תגובה	$E^0$ (V)
$\text{Fe}^{3+}_{(aq)} + e \rightarrow \text{Fe}^{2+}_{(aq)}$	0.77
$\text{MnO}_4^-_{(aq)} + 8\text{H}^+_{(aq)} + 5e \rightarrow \text{Mn}^{2+}_{(aq)} + 4\text{H}_2\text{O}_{(l)}$	1.49

- א. כתבו את התגובה המאוזנת שמתרחשת.  
 ב. מהו מספר מולי האלקטרונים העוברים בתגובה, כאשר 2.5 מול של  $\text{MnO}_4^-_{(aq)}$  מגיב?  
 ג. כתבו תיאור סכמתי של התא האלקטרוכימי, שניתן לבנות על פי התגובה הזאת.  
 ד. חשבו את מתח התא בתנאים תקינים.  
 ה. חשבו את  $K_c$ .  
 ו. מה יהיה מתח התא כאשר הריכוזים של מרכיבי התא הם:

$$[\text{Fe}^{2+}_{(aq)}] = [\text{Fe}^{3+}_{(aq)}] = 0.6 \text{ M}, [\text{Mn}^{2+}_{(aq)}] = 0.2 \text{ M},$$

$$[\text{MnO}_4^-_{(aq)}] = 0.1 \text{ M}, [\text{H}^+_{(aq)}] = 1 \text{ M}$$

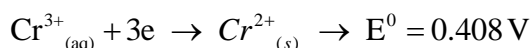
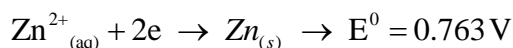
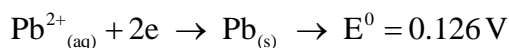
14) נתונים שני חצאי תאים  $\text{Co}^{2+}_{(aq)} + 2e \rightarrow \text{Co}_{(s)}$ ,  $E^0 = 0.28 \text{ V}$ ,



כאשר יוצרים מהם תא אלקטרוכימי:

- א. כיוון זרימת האלקטרונים הוא מחצי התא של הקובלט לחצי התא של הכספית.  
 ב. כיוון זרימת האלקטרונים הוא מחצי התא של הכספית לחצי התא של הקובלט.  
 ג. כספית היא אנודה.  
 ד. כיוון זרימת האניונים בגשר המלח הוא לכיוון חצי התא של הכספית.

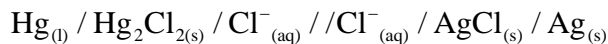
15) נתונות משוואות מחציות התא הבאות:



החומר המחזר הטוב ביותר הוא:

- א. Zn  
 ב. Pb  
 ג.  $\text{Cr}^{2+}$   
 ד.  $\text{Cr}^{3+}$

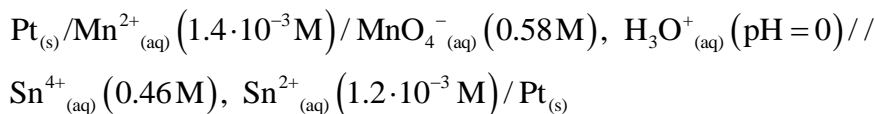
16) כתבו את מחציות התגובה ואת המשוואה המאוזנת לתגובת התא הבא :



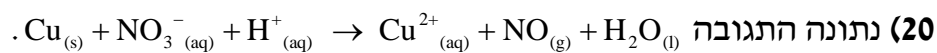
17) סטודנטית קיבלה מחצית-תא תקני  $\text{Fe}^{2+}/\text{Fe}$  ומחצית-תא נוספת המכילה מתכת לא ידועה  $M$  טבולה בתמיסת  $\text{MNO}_3$  בריכוז  $1\text{M}$ . כאשר חיברו את שתי מחציות התא בטמפי' החדר, התא השלם פעל כתא גלווני בעל מתח תא של  $1.24\text{V}$ . הניחו לתגובה להימשך כל הלילה ואז שקלו את האלקטרודות. נמצא שאלקטרודת הברזל קלה יותר ואלקטרודת המתכת הלא ידועה כבדה יותר. מהו הפוטנציאל התקני של הצמד הלא ידוע  $M^+/M$ , אם נתון כי  $E^0(\text{Fe}^{2+}/\text{Fe}) = -0.44\text{V}$ .

18) זרם של  $350\text{mA}$ , שהועבר בתמיסה מימית של מנגן חנקתי במשך  $13.7$  שעות, גרם לשיקוע של  $4.9$  גרם של מנגן. מהו מספר החמצון של מנגן במנגן חנקתי?

19) לתא הבא פוטנציאל של  $1.45\text{V}$  :



חשבו את קבוע שיווי המשקל עבור התגובה שמתרחשת בתא.



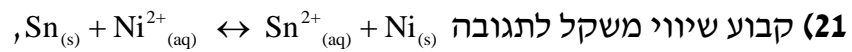
א. אזנו את המשוואה בעזרת חצאי התגובות.

התגובה הנ"ל מתרחשת בתא. המתח שנמדד הוא:  $E^0 = 0.62\text{V}$ .

ב. היעזרו בנתוני הטבלה הבאה וחשבו את פוטנציאל החיזור התקני עבור

מחצית התגובה של  $\text{NO}_3^-$ .

חצי תגובה	$E^0$ (V)
$\text{Cu}^{2+}_{(aq)} + 2e \leftrightarrow \text{Cu}_{(s)}$	0.34
$\text{NO}_3^-_{(aq)} + 4\text{H}^+_{(aq)} + 3e \leftrightarrow \text{NO}_{(g)} + 2\text{H}_2\text{O}_{(l)}$	?



הוא  $2 \cdot 10^{-4}$  (ב- 298 K).

א. האם פוטנציאל החיזור התקני של  $\text{Ni}^{2+}_{(aq)}$  גבוה או נמוך מזה של יוני

$\text{Sn}^{2+}_{(aq)}$ ? נמקו ללא חישובים.

ב. בְּנו את התא מהחומרים המופיעים בניסוח התגובה, והתא סיפק אנרגיה. רשמו בצורה סכמתית את המבנה של תא זה.

ג. כאשר התא הגיע לשיווי משקל נלקח מדגם מתמיסת  $\text{Sn}^{2+}_{(aq)}$ , והוכנסה

לתוכה אלקטרודת בדיל. פוטנציאל האלקטרודה נמדד לעומת

אלקטרודה תקנית של מימן, ונמצא שהוא  $-0.26 \text{ V}$ .

מהו ריכוז יוני הבדיל בתום פעולת התא? נתון:  $E^0(\text{Sn}^{2+}/\text{Sn}) = -0.14 \text{ V}$ .

## תשובות סופיות

(1) ג

(2) ג

(3) ג

(4) א

(5) ד

(6) ג

(7) א

(8) ג

(9) ד

(10) ד

(11) ג

(12) א.  $-0.249\text{ V}$  ב.  $0.167\text{ V}$  ג.  $0.249\text{ V}$  ד. עלה.3.  $2\text{H}^+_{(\text{aq})} + \text{Ni}_{(\text{s})} \rightarrow \text{H}_{2(\text{g})} + \text{Ni}^{2+}_{(\text{aq})}$  4. Ni מחזור,  $\text{H}^+$  עובר חיזור.(13) א.  $5\text{Fe}^{2+}_{(\text{aq})} + \text{MnO}_4^-_{(\text{aq})} + 8\text{H}^+_{(\text{aq})} \rightarrow \text{Mn}^{2+}_{(\text{aq})} + 4\text{H}_2\text{O}_{(\text{l})} + 5\text{Fe}^{3+}_{(\text{aq})}$ ב.  $12.5$  מול. ג.  $\text{Pt}_{(\text{s})}/\text{Fe}^{2+}_{(\text{aq})}, \text{Fe}^{3+}_{(\text{aq})}/\text{MnO}_4^-_{(\text{aq})}, \text{Mn}^{2+}_{(\text{aq})}, \text{H}^+_{(\text{aq})}$ ד.  $0.72\text{ V}$  ה.  $1.04 \cdot 10^{61}$  ו.  $0.71\text{ V}$ 

(14) א

(15) ב

(16)  $2\text{Hg}_{(\text{l})} + 2\text{AgCl}_{(\text{s})} \rightarrow 2\text{Ag}_{(\text{s})} + \text{Hg}_2\text{Cl}_{2(\text{s})}$ (17)  $0.8\text{ V}$ (18)  $+2$ (19)  $1.97 \cdot 10^{34}$ (20) א.  $\text{NO}_{3}^-_{(\text{aq})} + 1.5\text{Cu}_{(\text{s})} + 4\text{H}^+_{(\text{aq})} \rightarrow \text{NO}_{(\text{aq})} + 1.5\text{Cu}^{2+}_{(\text{aq})} + 2\text{H}_2\text{O}_{(\text{l})}$  ב.  $0.96\text{ V}$ (21) א. נמוך. ב.  $8.55 \cdot 10^{-5}\text{ M}$