

כימיה למדעי המוח

פרק 4 - חישובים סטויכיומטריים

תוכן העניינים

1. מעברים בין שיטות שונות של הבעת כמות החומר.....1
2. חישובים סטויכיומטריים לפי משוואה כימית.....3
3. חישובים סטויכיומטריים בתמיסות.....5

מעברים בין שיטות שונות של הבעת כמות החומר

שאלות

- 1) א. מסה של 0.00227 מול, XOF_3 , היא 0.236 גרם.
 מהי מסה אטומית יחסית של X?
 ב. חשבו את אחוז החמצן ב- $UO_2(NO_3)_2$.
 ג. כמה מולקולות של גופרית דו חמצנית (SO_2) יש ב-1.5 ק"ג של תרכובת זו?
- 2) א. כמה אטומי זרחן נמצאים במיליגרם אחד של $Ni_3(PO_4)_2$?
 ב. כמה אטומים בסך הכל (מימן וחמצן) ישנם ב-10 גרם מים H_2O ?
 ג. כמה אטומי חמצן ישנם בקילוגרם אוזון O_3 ?
- 3) א. חשבו את מספר אטומי החמצן (O) בגרם אחד של H_2SO_4 .
 ב. חשבו את מספר היונים ב-1.5 מול של $Al_2(SO_4)_3$.
- 4) מה מכיל יותר חלקיקים?
 א. 5 גרם של H_2 או 5 גרם של O_2 .
 ב. 20 גרם H_2 או 20 גרם של Mg.
 ג. מול CO_2 או מול CO.
- 5) אילו קביעות נכונות:
 א. מספר האטומים ב-18 גרם מים גדול מזה שב-44 גרם CO_2 .
 ב. מסה של 200 מולקולות O_2 שווה למסה של 200 מולקולות N_2 .
 ג. מסה של שני מול O_2 קטנה מזו של שני מולי פחמן.
 ד. מספר האטומים ב-36 גרם של מים קטן מזה שב-36 גרם של CO_2 .
 ה. מספר המולקולות ב-44 גרם של CO_2 קטן ממספר המולקולות ב-44 גרם של מים.
- 6) כמה גרם אטומי חנקן (N) נמצאים ב-:
 א. 5 גרם NH_3 .
 ב. 5 גרם NH_4NO_3 .

7) באיזו כמות של H_2SO_4 (ב-g) נמצאת אותה כמות של אטומי חמצן, כמו ב-41 גרם של H_2SO_3 ?

תשובות סופיות

- 1) א. 31 גרם/מול. ב. 32.48% ג. $141.09 \cdot 10^{23}$ מולקולות.
- 2) א. $3.28 \cdot 10^{18}$ אטומי זרחן. ב. $10.03 \cdot 10^{23}$ אטומים. ג. $376.25 \cdot 10^{23}$ אטומי חמצן.
- 3) א. $0.246 \cdot 10^{23}$ אטומי חמצן. ב. $45.15 \cdot 10^{23}$ יונים.
- 4) א. 5 גרם של H_2 . ב. 20 גרם של H_2 . ג. מספר החלקיקים שווה.
- 5) ה
- 6) א. 4.118 גרם. ב. 1.75 גרם.
- 7) 36.75 גרם.

חישובים סטויכיומטריים לפי משוואה כימית

שאלות

1) ניתן לפרק N_2O_5 גזי ל- NO_2 וחמצן גזי. כמה מולים של חמצן מתקבלים בפירוק מלא של 54 גרם של N_2O_5 :

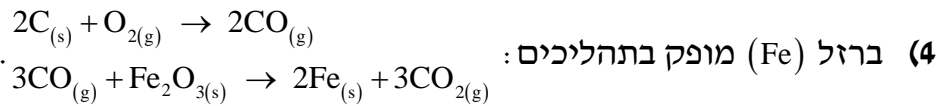
- א. 0.125
- ב. 0.250
- ג. 0.500
- ד. 0.750

2) נתונה התגובה $4NH_3(g) + 5O_2(g) \rightarrow 6H_2O(l) + 4NO(g)$.
לכלי התגובה הוכנסו 12 מול של NH_3 ו-14 מולים של חמצן.
בחרו את התשובה הלא נכונה :

- א. מספר המולים של חנקן חמצני (NO) שמתקבלים שווה למספר המולים של אמוניה (NH_3) שהגיבה.
- ב. בתום התהליך נשארים בעודף 0.8 מולים של NH_3 .
- ג. בתום התגובה ישנם סך הכל 26 מולים של המרכיבים (תוצרים, ואחד מהמגיבים שנשאר בעודף).
- ד. בתום התהליך מתקבלים 16.8 מולים של מים.

3) נתונה התגובה הבאה: $Fe_2O_3(s) + 3CO(g) \rightarrow 2Fe(g) + 3CO_2(g)$.
בחרו את התשובה שבה פחמן חמצני (CO) יישאר בעודף :

- א. אם לכלי התגובה נכניס 16 גרם של $Fe_2O_3(s)$ ו-8.4 גרם פחמן חמצני.
- ב. אם לכלי התגובה נכניס 16 גרם של $Fe_2O_3(s)$, ובסוף התגובה נקבל 5.6 גרם ברזל מוצק.
- ג. אם לכלי התגובה נכניס 8.4 גרם של פחמן חמצני, ונקבל 11.2 גרם ברזל מוצק.
- ד. אם לכלי התגובה נכניס 16 גרם של $Fe_2O_3(s)$ ו-11.2 גרם פחמן חמצני.



4 ברזל (Fe) מופק בתהליכים:

מהי המסה המרבית של ברזל שניתן להפיק מתגובה בין 36 ק"ג פחמן לבין 180 ק"ג של Fe_2O_3 , וכמות מספקת של חמצן?

א. 168 ק"ג.

ב. 112 ק"ג.

ג. 126 ק"ג.

ד. 42 ק"ג.



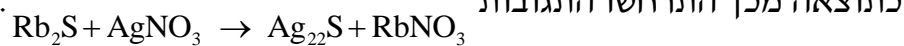
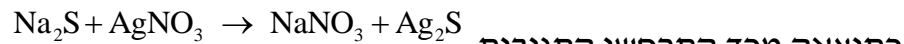
5 נתונה התגובה: לתוך כלי התגובה הוכנסו 20 גרם של מנגן חמצני, $2MnO_2$, 40 גרם של אשלגן הידרוקסידי, KOH, ו-10 גרם של חמצן.

א. כמה גרם של K_2MnO_4 ושל מים מתקבלים בתגובה זו?

ב. אלו חומרים נשארו בעודף ובאיזו כמות?

6 נתונה תערובת של Rb_2S ו- Na_2S מסתה שווה ל-0.2380 גרם.

לתערובת נוספה כמות מספקת של כסף חנקתי ($AgNO_3$).



כתוצאה מכך התרחשו התגובות המסה הכוללת של Ag_2S שהתקבלה היתה 0.4302 גרם.

חשבו את מסתם של Rb_2S ו- Na_2S בתערובת.

תשובות סופיות

1) ב

2) ג

3) ד

4) ב

5) א. H_2O 4.14 גרם; K_2MnO_4 45.31 גרם. ב. KOH, O_2

6) Na_2S : 0.068 גרם; Rb_2S : 0.17 גרם.

חישובים סטויכיומטריים בתמיסות

שאלות

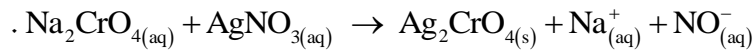
- 1** נתונות שלוש תמיסות: (1) 0.5 ליטר של NaCl, 0.45 M (ריכוז מולרי).
 (2) 1.5 ליטר של NaOH, 0.15 M, (3) 2 ליטר של NaCl, 0.45 M.
 מהו המשפט הלא נכון:
- תמיסות (1) ו-(2) מכילות אותו מספר המולים של המומס.
 - תמיסה (2) היא המהולה ביותר.
 - תמיסה (3) היא המרוכזת ביותר.
 - תמיסה (3) מכילה את המספר הגדול ביותר של מולי המומס.
 - בערבוב כל נפח שהוא של תמיסה (3) עם תמיסה (1), ריכוזה של התמיסה הסופית יהיה 0.45 M.
- 2** ערבבו 2.0 מ"ל של אתנול נוזלי (C_2H_5OH), בעל צפיפות 0.70 גרם למ"ל, עם 8.0 מ"ל מים. ריכוז האתנול בתמיסה שהתקבלה הוא:
- 30 M
 - 20 M
 - 15 M
 - 3.0 M
- 3** נתונה תמיסת NaBr בעלת ריכוז 0.120 מולר. ב-200 מ"ל של תמיסה זו יש (בחרו את התשובה הנכונה):
- אותה מסה של המומס, כמו ב-400 מ"ל תמיסת NaBr בריכוז 0.240 M.
 - אותו מספר המולים, כמו ב-400 מ"ל תמיסת NaCl בריכוז 0.0600 M.
 - אותה מסה של המומס, כמו ב-400 מ"ל תמיסת NaBr בריכוז 0.0600 M.
 - אותה מסה כמו ב-400 מ"ל תמיסת NaCl בריכוז 0.0600 M.
 - תשובות ב ו-ג נכונות.
 - תשובות ב ו-א נכונות.

- 4) חשבו את הריכוז המוללי (m) של תמיסת חומצה אצטית, CH_3COOH , בעלת ריכוז 2.03 M. צפיפות התמיסה שווה ל-1.017 g/ml.
- א. 2.03 m
ב. 2.52 m
ג. 2.27 m
ד. 1.82 m
- 5) תמיסה של מים ואתנול ($\text{C}_2\text{H}_5\text{OH}$) מכילה 80 גרם של אתנול ל-300 גרם תמיסה. השבר המולי של אתנול בתמיסה שווה ל:
- א. 0.143
ב. 0.124
ג. 0.104
ד. 0.364
ה. 0.267
- 6) ל-50 מ"ל של תמיסת מלח בריכוז משקלי 25% וצפיפות 1.30 גרם לסמ"ק הוסיפו 20 מ"ל תמיסת מלח בריכוז משקלי 34% וצפיפות 1.40 גרם לסמ"ק. חשבו את האחוז המשקלי של המלח בתמיסה שמתקבלת.
- 7) נתונה תמיסה של HNO_3 בריכוז 16M, שצפיפותה שווה ל-1.42 גרם למ"ל. האחוז המשקלי של תמיסה זו שווה ל:
- א. ~ 70%
ב. ~ 48%
ג. ~ 41.5%
ד. ~ 36%
- 8) ל-50 מ"ל תמיסה מימית של $\text{Ca}(\text{OH})_2$ בריכוז 0.3M הוסיפו 25 מ"ל מים. מהתמיסה שהתקבלה נלקחה דגימה בנפח 10 מ"ל. מהו הריכוז המולרי של כל היונים בדגימה?
- א. 0.6 M
ב. 0.4 M
ג. 0.006 M
ד. 0.2 M

- 9 א. חשבו את נפח תמיסת HNO_3 בריכוז 6 M, שדרוש עבור הכנת 50 מ"ל תמיסת HNO_3 , בריכוז 0.5 M.
 ב. כמה מ"ל מים יש להוסיף ל-150.0 מ"ל תמיסת סוכר בריכוז 1.2 M, כדי שריכוזה יגיע ל-0.80 M?
- 10 ל-25.0 מ"ל תמיסת $\text{Na}_2\text{S}_{(\text{aq})}$, בעלת ריכוז 0.120 M, הוסיפו 100.0 מ"ל מים. ריכוז יוני נתרן לאחר ההוספה יהיה שווה ל:
 א. 0.03 M
 ב. 0.06 M
 ג. 0.02 M
 ד. 0.048 M
- 11 נתונה תמיסת HClO_4 בעלת אחוז משקלי 35% וצפיפות 1.251 גרם/מ"ל.
 א. חשבו את מולריות התמיסה.
 ב. כמה מול HClO_4 מומסים ב-250 מ"ל של תמיסה זו?
 ג. כמה מ"ל של תמיסה זו דרושים להכנת 150 מ"ל תמיסה בריכוז 2 M?
 ד. איזה נפח של תמיסה שהוכנה בסעיף ג מכיל 0.75 מול HClO_4 ?
- 12 לתוך 100 מ"ל תמיסה מימית, בה ריכוז יוני $\text{Fe}^{+3}_{(\text{aq})}$ שווה ל-0.1 M, הכניסו אבקת ברזל מוצק במסה של 0.40 גרם. כתוצאה מכך, חלה תגובה:

$$\text{Fe}_{(\text{s})} + 2\text{Fe}^{+3}_{(\text{aq})} \rightarrow 3\text{Fe}^{+2}_{(\text{aq})}$$
 ריכוז יוני $\text{Fe}^{+2}_{(\text{aq})}$ בתום התגובה שווה ל:
 א. 0.1 M
 ב. 0.15 M
 ג. 0.3 M
 ד. 0.0667 M
- 13 כמה גרם של כסף מתכתי, Ag, דרושים על מנת להגיב עד הסוף עם 35.5 מ"ל תמיסה של יוני In^{3+} בריכוז 0.205 M?
 משוואת התהליך היא: $3\text{Ag}_{(\text{s})} + \text{In}^{3+}_{(\text{aq})} \rightarrow 3\text{Ag}^{+}_{(\text{aq})} + \text{In}_{(\text{s})}$
 א. 1.03 g
 ב. $2.35 \cdot 10^3$ g
 ג. 2.35 g
 ד. 0.262 g

14) כאשר מערבבים תמיסה מימית של Na_2CrO_4 עם תמיסה מימית של AgNO_3 , נוצר משקע לפי הניסוח



20.0 מ"ל תמיסת Na_2CrO_4 בריכוז לא ידוע הגיבו **בשלמות** עם 30.0 מ"ל תמיסת AgNO_3 בריכוז 0.0080 M. ריכוזה של תמיסת Na_2CrO_4 שווה ל:

א. 0.0240 M

ב. 0.0120 M

ג. 0.0060 M

ד. 0.0080 M

תשובות סופיות

(1) ג

(2) ד

(3) ה

(4) ג

(5) ב

(6) 27.7%

(7) א

(8) א

(9) א. 4.17 מ"ל. ב. 75 מ"ל.

(10) ד

(11) א. 4.35 M. ב. 109.38 גרם. ג. 69 מ"ל. ד. 0.375 ליטר.

(12) ב

(13) ג

(14) ג