

שיטות כמותיות בניהול

פרק 17 - חזרה כללית - וקטורים גיאומטריים

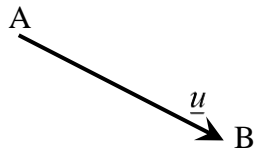
תוכן העניינים

1. הגדרות וכללים יסודיים 1
2. וקטורים הפורשים מישור 6
3. מכפלה סקלרית וחישוב גודל של וקטור 10

הגדרות וכללים יסודיים:

סיכום כללי:

הגדרה כללית:

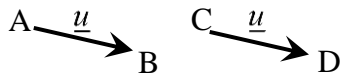


להלן תיאור של וקטור גיאומטרי: וקטור שמוצאו בנקודה A ומסתיים בנקודה B יסומן באופן הבא: \overline{AB} .

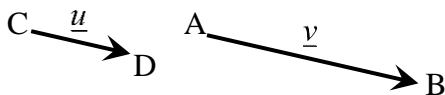
ניתן לסמן וקטור באות קטנה באופן הבא: \underline{u} (אותיות מקובלות לסימון הן: $\underline{u}, \underline{v}, \underline{w}$).
מהאיור לעיל מתקיים: $\overline{AB} = \underline{u}$.

קשרים בין וקטורים:

- וקטורים שווים: שני וקטורים נקראים שווים אם הם זהים בגודלם ובכיוונם.
דוגמא לווקטורים שווים: מתקיים: $\overline{AB} = \overline{CD}$.



- וקטורים מקבילים: שני וקטורים שכיוונם זהה נקראים מקבילים. ניתן להביע את האחד באמצעות השני ע"י כפל בסקלר. וקטורים מקבילים נקראים גם "ווקטורים תלויים ליניארית". דוגמא לתלות בין וקטורים מקבילים:

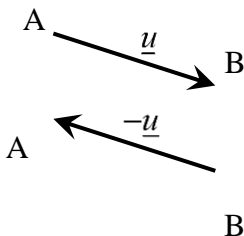


עבור $\alpha > 1$ מתקיים: $\underline{v} = \alpha \underline{u}$, או: $\overline{AB} = \alpha \cdot \overline{CD}$.

- אם זוג וקטורים במרחב: $\overline{AB} = \alpha \underline{u} + \beta \underline{v} + \gamma \underline{w}$ ו- $\overline{CD} = a \underline{u} + b \underline{v} + c \underline{w}$ מקבילים

$$\frac{\alpha}{a} = \frac{\beta}{b} = \frac{\gamma}{c}$$

אז מתקיים:

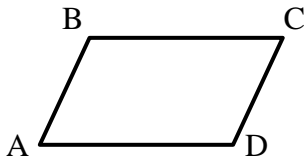


- וקטור המסומן \overline{BA} הוא בעל גודל זהה לווקטור \overline{AB} וכיוון הפוך לו. במקרה זה מתקיים: $\overline{BA} = -\underline{u}$.

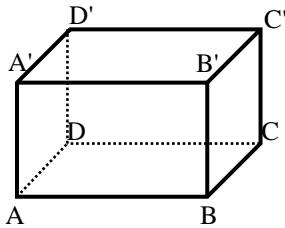
הערה:

שני וקטורים \underline{u} ו- \underline{v} יקראו מקבילים אם מתקיים: $\underline{v} = \alpha \underline{u}$ כאשר הגודל α יכול לקבל כל ערך מספרי בתחום $\alpha \neq 0$. בפרט עבור $\alpha < 0$ כיוונם הפוך ב- 180° .

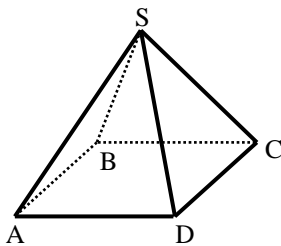
שאלות:



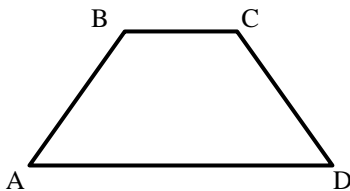
(1) במקבילית ABCD נתון: $\overline{AB} = \underline{u}$, $\overline{AD} = \underline{v}$
מצא את כל הווקטורים במקבילית ששווים ל- \underline{u} או \underline{v} .



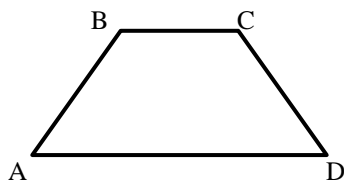
(2) בתיבה ABCDA'B'C'D' נתון: $\overline{AB} = \underline{u}$, $\overline{AD} = \underline{v}$, $\overline{AA'} = \underline{w}$
מצא את כל הווקטורים בתיבה ששווים ל- \underline{u} , \underline{v} או \underline{w} .



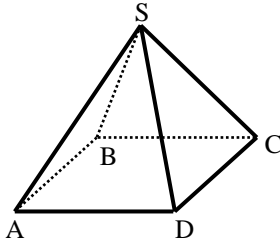
(3) בפירמידה SABCD שבסיסה ריבוע נתון: $\overline{AB} = \underline{u}$, $\overline{AD} = \underline{v}$, $\overline{AS} = \underline{w}$
מצא את כל הווקטורים שבפירמידה השווים ל- \underline{u} , \underline{v} או \underline{w} .



(4) בטרפז ABCD שבשרטוט נתון: $\overline{AB} = \underline{u}$, $\overline{AD} = \underline{v}$, $AD = 3BC$
מצא את כל הווקטורים בטרפז שניתן להביע באמצעות \underline{u} או \underline{v} .



(5) בטרפז ABCD שבשרטוט נתון: $\overline{AB} = \underline{u}$, $\overline{AD} = \underline{v}$, $AD = 3BC$
א. הבע באמצעות \underline{u} ו- \underline{v} את הווקטורים \overline{AC} ו- \overline{DC} .
ב. הנקודה E היא אמצע הצלע AD. הבע באמצעות \underline{u} ו- \underline{v} את הווקטור \overline{BE} .
ג. הנקודה F היא אמצע הצלע CD. הבע באמצעות \underline{u} ו- \underline{v} את הווקטור \overline{AF} .



6) בפירמידה SABCD שבסיסה ריבוע

נתון: $\overline{AB} = \underline{u}$, $\overline{AD} = \underline{v}$, $\overline{AS} = \underline{w}$.

א. הבע באמצעות \underline{u} , \underline{v} ו- \underline{w} את

הווקטורים \overline{AC} ו- \overline{SC} .

ב. הנקודה N היא אמצע המקצוע SD.

הבע באמצעות \underline{u} , \underline{v} ו- \underline{w} את הווקטור \overline{BN} .

7) הנקודה P נמצאת על הקטע AB כך ש: $AP:PB = 2:3$. נתון: $\overline{AB} = \underline{u}$.

הבע באמצעות \underline{u} את הווקטורים \overline{AP} ו- \overline{PB} .

8) הנקודה P נמצאת על הקטע AB כך ש: $AP:PB = 3:5$. נתון: $\overline{AP} = \underline{u}$.

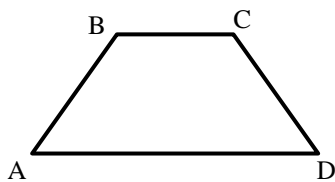
הבע באמצעות \underline{u} את הווקטורים \overline{PB} ו- \overline{AB} .

9) הנקודה P נמצאת על הקטע AB כך ש: $\frac{AP}{AB} = \alpha$. נתון: $\overline{AB} = \underline{u}$.

הבע באמצעות \underline{u} את הווקטורים \overline{AP} ו- \overline{PB} .

10) הנקודה P נמצאת על הקטע AB כך ש: $\frac{AP}{PB} = \alpha$. נתון: $\overline{AB} = \underline{u}$.

הבע באמצעות \underline{u} את הווקטורים \overline{AP} ו- \overline{PB} .



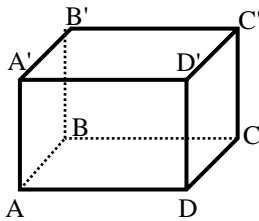
11) בטרפז ABCD שבשרטוט

נתון: $\overline{AB} = \underline{u}$, $\overline{AD} = \underline{v}$, $AD = 3BC$.

הנקודה F נמצאת על הצלע CD

ומקיימת: $\frac{DF}{FC} = \beta$.

הבע באמצעות \underline{u} , \underline{v} ו- β את הווקטור \overline{AF} .

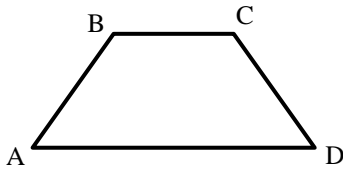


(12) בתיבה $ABCD A'B'C'D'$ נתון: $\overline{AB} = \underline{u}$, $\overline{AD} = \underline{v}$, $\overline{AA'} = \underline{w}$

הנקודה P נמצאת על המקצוע $A'B'$ ומקיימת: $\frac{AP}{A'B'} = \alpha$

והנקודה Q נמצאת על המקצוע CC' ומקיימת: $\frac{CQ}{QC'} = \beta$

הבע באמצעות \underline{u} , \underline{v} , \underline{w} ו- α ו- β את הווקטור: \overline{PQ} .

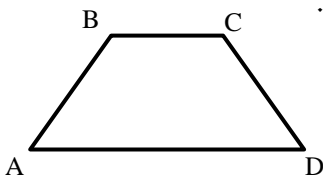


(13) בטרפז ABCD שבשרטוט נתון: $\overline{AB} = \underline{u}$, $\overline{AD} = \underline{v}$, $AD = 3BC$

הנקודה E נמצאת באמצע הצלע CD.

הנקודה F נמצאת על הצלע AD ומקיימת: $\frac{AF}{FD} = \alpha$

מצא את ערכו של α שבעבורו מתקיים $\overline{FE} \parallel \overline{AB}$.

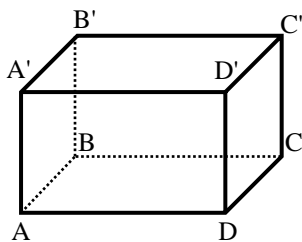


(14) בטרפז ABCD שבשרטוט נתון: $\overline{AB} = \underline{u}$, $\overline{AD} = \underline{v}$, $AD = 3BC$

הנקודה E נמצאת באמצע הצלע CD.

הנקודה F נמצאת על הצלע AD ומקיימת: $\frac{AF}{FD} = \alpha$

מצא את ערכו של α שבעבורו מתקיים: $\overline{FE} \parallel \overline{AC}$.



(15) בתיבה $ABCD A'B'C'D'$ נתון: $\overline{AB} = \underline{u}$, $\overline{AD} = \underline{v}$, $\overline{AA'} = \underline{w}$

הנקודה P נמצאת על המקצוע $A'B'$ ומקיימת: $\frac{AP}{A'B'} = \alpha$

והנקודה Q נמצאת על המקצוע CC' ומקיימת: $\frac{CQ}{QC'} = \beta$

א. הבע באמצעות \underline{u} , \underline{v} , \underline{w} ו- α ו- β את הווקטור \overline{PQ} .

ב. האם קיימים ערכי α ו- β שבעבורם $\overline{PQ} \parallel \overline{AC}$? נמק.

ג. הנקודה E היא מפגש אלכסוני הפאה $ABB'A'$.

מצא את ערכי α ו- β אם נתון כי $\overline{PQ} \parallel \overline{EC}$.

תשובות סופיות:

$$\underline{u} = \overline{DC}, \underline{v} = \overline{BC} \quad (1)$$

$$\underline{w} = \overline{AA'} = \overline{DD'} = \overline{CC'} = \overline{BB'}, \underline{u} = \overline{DC} = \overline{D'C'} = \overline{A'B'} = \overline{AB}, \underline{v} = \overline{AD} = \overline{BC} = \overline{A'D'} = \overline{B'C'} \quad (2)$$

$$\underline{u} = \overline{AB} = \overline{DC}, \underline{v} = \overline{AD} = \overline{BC}, \underline{w} = \overline{AS} \quad (3)$$

$$\overline{BC} = \frac{1}{3}\underline{v} \quad (4)$$

$$\overline{AF} = \frac{1}{2}\underline{u} + \frac{2}{3}\underline{v} \quad \text{ג.} \quad \overline{BE} = -\underline{u} + \frac{1}{2}\underline{v} \quad \text{ב.} \quad \overline{AC} = \underline{u} + \frac{1}{3}\underline{v}, \overline{DC} = \underline{u} - \frac{2}{3}\underline{v} \quad \text{א.} \quad (5)$$

$$\overline{BN} = -\underline{u} + \frac{1}{2}\underline{v} + \frac{1}{2}\underline{w} \quad \text{ב.} \quad \overline{AC} = \underline{u} + \underline{v}, \overline{SC} = \underline{u} + \underline{v} - \underline{w} \quad \text{א.} \quad (6)$$

$$\overline{AP} = \frac{2}{5}\underline{u}, \overline{BP} = \frac{3}{5}\underline{u} \quad (7)$$

$$\overline{AB} = \frac{8}{3}\underline{u}, \overline{PB} = \frac{5}{3}\underline{u} \quad (8)$$

$$\overline{AP} = \alpha\underline{u}, \overline{PB} = (1-\alpha)\underline{u} \quad (9)$$

$$\overline{AP} = \frac{\alpha}{1+\alpha}\underline{u}, \overline{PB} = \frac{1}{1+\alpha}\underline{u} \quad (10)$$

$$\overline{AF} = \frac{\beta}{1+\beta}\underline{u} + \frac{3+\beta}{3+3\beta}\underline{v} \quad (11)$$

$$\overline{PQ} = (1-\alpha)\underline{u} + \underline{v} - \frac{1}{1+\beta}\underline{w} \quad (12)$$

$$\alpha = 2 \quad (13)$$

$$\alpha = 1 \quad (14)$$

$$\alpha = \frac{1}{2}, \beta = 1 \quad \text{ג.} \quad \text{א.} \quad \overline{PQ} = (1-\alpha)\underline{u} + \underline{v} - \frac{1}{1+\beta}\underline{w} \quad \text{א.} \quad (15)$$

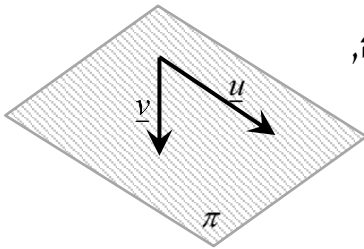
ווקטורים הפורשים מישור:

סיכום כללי:

ווקטורים הפורשים מישור:

כל שני ווקטורים שאינם מקבילים, כלומר, בלתי תלויים זה בזה, פורשים מישור.

דוגמא:



הווקטורים \underline{u} ו- \underline{v} בעלי כוונים שונים ולכן פורשים את המישור π .

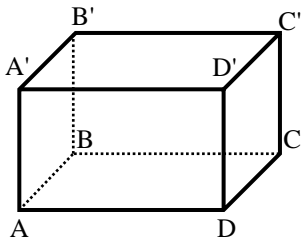
קומבינציה ליניארית של ווקטורים:

- כל ווקטור שנמצא במישור (או מקביל למישור זה) ניתן להצגה ע"י קומבינציה ליניארית של שני ווקטורים הפורשים את המישור.
- כל ווקטור שהוא קומבינציה ליניארית של שני ווקטורים הפורשים את המישור, מקביל למישור.
- אם ניתן להביע ווקטור שקומבינציה ליניארית של שני ווקטורים אחרים (או יותר) אז שלושת הווקטורים נקראים תלויים ליניארית (ניתן לבטא כל ווקטור באמצעות האחרים).

דוגמא:

עבור המישור הנפרש לעיל, ניתן להציג כל ווקטור \underline{w} המוכל, או מקביל למישור π באופן הבא: $\underline{w} = \alpha \cdot \underline{u} + \beta \cdot \underline{v}$ כאשר: α, β מספרים ממשיים כלשהם. במקרה זה שלושת הווקטורים $\underline{u}, \underline{v}$ ו- \underline{w} נקראים תלויים ליניארית.

שאלות:



16) בתיבה ABCDA'B'C'D' נתון: $\overline{AB} = \underline{u}$, $\overline{AD} = \underline{v}$, $\overline{AA'} = \underline{w}$.

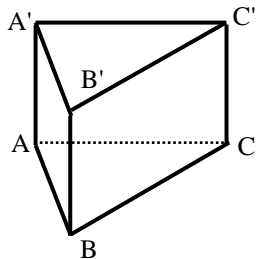
הנקודה P נמצאת על המקצוע A'B' ומקיימת: $\frac{AP}{A'B'} = \alpha$

והנקודה Q נמצאת על המקצוע CC' ומקיימת: $\frac{CQ}{QC'} = \beta$

א. הבע באמצעות α , \underline{u} , \underline{v} , \underline{w} ו- β את הווקטור \overline{PQ} .

ב. מהו ערכו של α שבעבורו הווקטור \overline{PQ} מקביל לפאה ADD'A'?

ג. האם קיים ערך של β שבעבורו הווקטור \overline{PQ} מקביל לבסיס ABCD?



17) נתונה מנסרה משולשת ABCA'B'C' ובה נתון:

$\overline{AB} = \underline{u}$, $\overline{AC} = \underline{v}$, $\overline{AA'} = \underline{w}$.

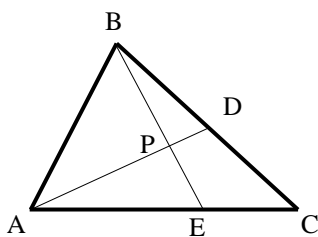
הנקודה M נמצאת על המקצוע A'C' ומקיימת: $\frac{AM}{MC'} = \alpha$

והנקודה N נמצאת על המקצוע BC ומקיימת: $\frac{BN}{BC} = \beta$

א. הבע באמצעות α , \underline{u} , \underline{v} , \underline{w} ו- β את הווקטור \overline{NM} .

ב. מהו ערכו של β שבעבורו הווקטור \overline{NM} מקביל לפאה ACC'A'?

ג. נתון כי הווקטור \overline{NM} מקביל לפאה ABB'A'. הבע את α באמצעות β .



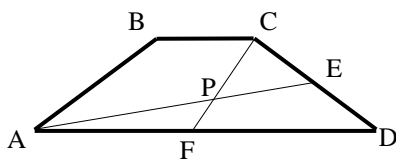
18) במשולש ABC הנקודה D היא אמצע הצלע BC והנקודה E נמצאת על הצלע AC כך שמתקיים: $\frac{AE}{CE} = 2$.

הנקודה P היא מפגש הקטעים AD ו-BE.

נגדיר: $\overline{AB} = \underline{u}$, $\overline{AC} = \underline{v}$, וכן: $\overline{AP} = t \cdot \overline{AD}$, $\overline{BP} = s \cdot \overline{BE}$.

א. הבע באמצעות \underline{u} , \underline{v} , t ו- s את הווקטור \overline{AP} בשתי דרכים שונות.

ב. מצא באיזה יחס מחלקת הנקודה P את הקטע AD ואת הקטע BE.



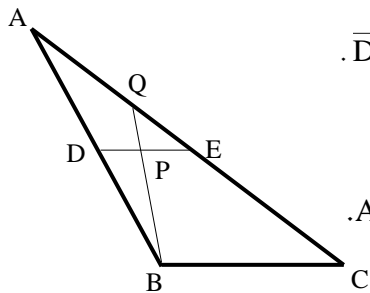
19) בטרפז $ABCD$, $(AD \parallel BC)$, שבשרטוט נתון: $AD = 3BC$.

הנקודה E נמצאת באמצע הצלע CD

והנקודה F נמצאת באמצע הצלע AD .

הנקודה P היא מפגש הקטעים AE ו- CF .

מצא באיזה יחס מחלקת הנקודה P את הקטע AE ואת הקטע CF .



20) במשולש ABC הנקודה D היא אמצע הצלע AB

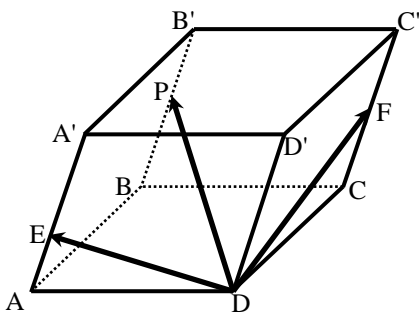
והנקודה E נמצאת על הצלע AC כך שמתקיים: $\overline{DE} \parallel \overline{BC}$.

הנקודה P היא אמצע הקטע DE והמשך הקטע BP

חותך את הצלע AC בנקודה Q .

א. מצא באיזה יחס מחלקת הנקודה Q את הצלע AC .

ב. חשב את היחס: $\frac{S_{\Delta QPE}}{S_{\Delta DPB}}$.



21) במקבילון $ABCD A'B'C'D'$

נתון: $\overline{DA} = \underline{u}$, $\overline{DC} = \underline{v}$, $\overline{DD'} = \underline{w}$.

הנקודה F נמצאת באמצע המקצוע CC' ,

הנקודה E נמצאת על המקצוע AA'

ומקיימת: $A'E = 2AE$ והנקודה P נמצאת על

המקצוע BB' ומקיימת: $\overline{B'P} = k \cdot \overline{B'B}$.

נתון: $\overline{DP} = t \cdot \overline{DE} + s \cdot \overline{DF}$.

א. הבע באמצעות \underline{u} , \underline{v} , \underline{w} ו- k את הווקטור \overline{DP} .

ב. מצא באיזה יחס מחלקת הנקודה P את המקצוע BB' .

ג. האם הנקודות D, E, F, P נמצאות על אותו מישור? נמק.

תשובות סופיות:

$$\overline{PQ} = (1-\alpha)\underline{u} + \underline{v} - \frac{1}{1+\beta}\underline{w} \quad \text{א. (16)}$$

ג. לא. ב. $\alpha = 1$

$$\overline{NM} = (\beta-1)\underline{u} + \left(\frac{\alpha}{\alpha+1} - \beta\right)\underline{v} + \underline{w} \quad \text{א. (17)}$$

ג. $\alpha = \frac{\beta}{1-\beta}$ ב. $\beta = 1$

$$\overline{AP} = \frac{1}{2}t\underline{u} + \frac{1}{2}t\underline{v}, \quad \overline{AP} = (1-s)\underline{u} + \frac{2}{3}s\underline{v} \quad \text{א. (18)}$$

ב. $BP:PE = 3:2, AP:PD = 4:1$

$$AP:PE = 2:1, CP:PF = 2:1 \quad \text{(19)}$$

$$\frac{S_{QPE}}{S_{DPB}} = \frac{1}{3} \quad \text{ב.}$$

א. $AQ:QC = 1:2$ (20)

$$\overline{DP} = \underline{u} + \underline{v} + (1-k)\underline{w} \quad \text{א. (21)}$$

ב. $BP:PB = 1:5$ ג. כן.

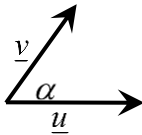
מכפלה סקלרית וחישוב גודל של וקטור:

סיכום כללי:

מכפלה סקלרית של שני וקטורים \underline{u} ו- \underline{v} תסומן: $\underline{u} \cdot \underline{v}$ ותחושב ע"י הנוסחה הבאה:

$$\underline{u} \cdot \underline{v} = |\underline{u}| \cdot |\underline{v}| \cdot \cos \alpha$$

כאשר α היא הזווית הנוצרת בין נקודת חיבור מוצאי הווקטורים ובין כיווני הווקטורים כמתואר באיור.



ניתן למצוא את הזווית שבין שני וקטורים ע"י: $\cos \alpha = \frac{\underline{u} \cdot \underline{v}}{|\underline{u}| \cdot |\underline{v}|}$

גודל של וקטור נתון ע"י: $|\underline{u}| = \sqrt{u^2}$, או: $|\underline{u}|^2 = u^2$

הערה:

המכפלה הסקלרית $\underline{u} \cdot \underline{v}$ בין שני וקטורים מקבלת ערך מספרי בלבד! היא יכולה להיות חיובית, שלילית או אפס כפי שנראה בהמשך.

שאלות:

22 חשב את המכפלה הסקלרית של הווקטורים \underline{u} ו- \underline{v} על פי הנתונים על גודלם והזווית שביניהם:

ב. $\alpha = 120^\circ$, $|\underline{v}| = 5$, $|\underline{u}| = 4$

א. $\alpha = 60^\circ$, $|\underline{v}| = 2$, $|\underline{u}| = 3$

ד. $\alpha = 180^\circ$, $|\underline{v}| = 3$, $|\underline{u}| = 8$

ג. $\alpha = 30^\circ$, $|\underline{v}| = 6$, $|\underline{u}| = 2$

ו. $\alpha = 90^\circ$, $|\underline{v}| = 4$, $|\underline{u}| = 7$

ה. $\alpha = 0^\circ$, $|\underline{v}| = 5$, $|\underline{u}| = 3$

23 חשב את הזווית בין הווקטורים \underline{u} ו- \underline{v} על פי הנתונים על גודלם והמכפלה הסקלרית שלהם:

ב. $\underline{u} \cdot \underline{v} = -4\sqrt{3}$, $|\underline{v}| = 2$, $|\underline{u}| = 4$

א. $\underline{u} \cdot \underline{v} = 6$, $|\underline{v}| = 4$, $|\underline{u}| = 3$

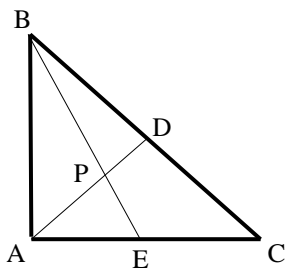
ד. $\underline{u} \cdot \underline{v} = 12$, $|\underline{v}| = 6$, $|\underline{u}| = 2$

ג. $\underline{u} \cdot \underline{v} = 0$, $|\underline{v}| = 5$, $|\underline{u}| = 9$

(24) נתונים שני וקטורים \underline{u} ו- \underline{v} שאורכם: $|\underline{u}|=6$, $|\underline{v}|=3$. הזווית ביניהם היא 120° .
חשב את גודלו של הווקטור \overline{PQ} שמוגדר: $\overline{PQ} = 2\underline{u} - 3\underline{v}$.

(25) נתונים שני וקטורים \underline{u} ו- \underline{v} המאונכים זה לזה שאורכם: $|\underline{u}|=4$, $|\underline{v}|=5$.
חשב את גודלו של הווקטור \overline{MN} שמוגדר: $\overline{MN} = 0.5\underline{u} - \underline{v}$.

(26) נתונים שני וקטורים \underline{u} ו- \underline{v} שאורכם: $|\underline{u}|=6$, $|\underline{v}|=3$. הזווית ביניהם היא 120° .
חשב את גודל הזווית $\sphericalangle QPM$ אם נתון: $\overline{PM} = 4\underline{u} + \underline{v}$, $\overline{PQ} = 2\underline{u} - 3\underline{v}$.

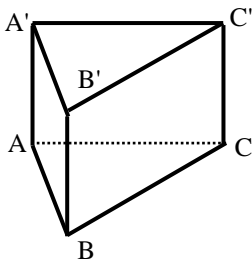


(27) המשולש ABC הוא משולש ישר זווית ($\sphericalangle BAC = 90^\circ$). הנקודה D היא אמצע היתר BC והנקודה E נמצאת על הניצב AC.

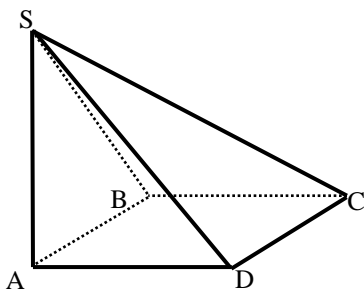
הנקודה P היא מפגש הקטעים AD ו-BE.

נתון: $AC = 12$, $AB = 8$, $\frac{AP}{PD} = 3$.

חשב את גודל הזווית $\sphericalangle DPC$.



(28) נתונה מנסרה משולשת וישרה $ABCA'B'C'$ שבסיסה משולש שווה צלעות שאורך כל אחת מצלעותיו הוא 6. גובה המנסרה הוא 8. הנקודה M היא אמצע המקצוע $A'C'$ והנקודה N נמצאת על המקצוע BC ומקיימת: $BN = 2CN$.
נסמן: $\overline{AB} = \underline{u}$, $\overline{AC} = \underline{v}$, $\overline{AA'} = \underline{w}$.
חשב את גודל הזווית: $\sphericalangle MAN$.



(29) בפירמידה SABCD שבסיסה ריבוע המקצוע SA הוא גובה הפירמידה.

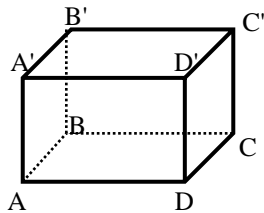
נתון: $AB = AD = \frac{1}{2} AS = k$.

נסמן: $\overline{AB} = \underline{u}$, $\overline{AD} = \underline{v}$, $\overline{AS} = \underline{w}$.

הנקודה Q היא אמצע המקצוע SC והנקודה P היא אמצע המקצוע SB.

חשב את גודל הזווית: $\sphericalangle PAQ$.

(30) בתיבה $ABCD A'B'C'D'$ נתון: $\overline{AA'} = \underline{w}$, $\overline{AD} = \underline{v}$, $\overline{AB} = \underline{u}$, $AB = \frac{1}{\sqrt{2}} AD = AA'$.



הנקודה P נמצאת על המקצוע $A'B'$ ומקיימת: $\frac{AP}{A'B'} = \alpha$

והנקודה Q היא אמצע המקצוע DD' .

א. מהו ערכו של α שבעבורו מתקיים: $|\overline{AP}| = \frac{5}{6} |\overline{AQ}|$?

ב. הבע באמצעות α את $\cos \angle PAQ$

והראה כי לכל ערך של α הזווית $\angle PAQ$ חדה.

ג. מהו ערכו של α שבעבורו הזווית $\angle PAQ$ מקיימת: $\cos \angle PAQ = \frac{2}{3\sqrt{5}}$?

(31) הוכח כי בכל מרובע ABCD מתקיים: $\overline{AC} \cdot \overline{BD} = \overline{AB} \cdot \overline{CD} + \overline{AD} \cdot \overline{BC}$

(32) נתון מלבן ABCD. הוכח כי לכל נקודה כלשהי P מתקיים: $\overline{PA} \cdot \overline{PC} = \overline{PB} \cdot \overline{PD}$

(33) נתון ריבוע ABCD. הנקודה P היא אמצע הצלע BC והנקודה Q היא אמצע הצלע CD.

הוכח כי מתקיים: $S_{ABCD} = \overline{AP} \cdot \overline{AQ}$

(34) נתון מרובע ABCD. הנקודה P היא אמצע הצלע AB והנקודה Q היא אמצע הצלע CD.

הוכח כי מתקיים: $\overline{PQ} = \frac{\overline{AD} + \overline{BC}}{2}$

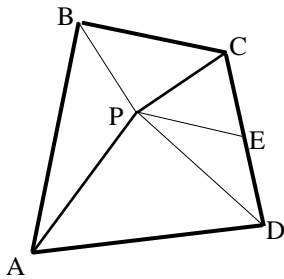
(35) נתונה פירמידה משולשת SABC שבה $\overline{AS} \perp \overline{BC}$ ו- $\overline{BS} \perp \overline{AC}$

הוכח: $\overline{CS} \perp \overline{AB}$

(36) הוכח: וקטור המאונך לשני וקטורים בלתי תלויים במישור מאונך לכל הווקטורים שבמישור.

37) ענה על הסעיפים הבאים:

- א. הנקודה M היא מפגש התיכונים במשולש ABC. הוכח: $\vec{MA} + \vec{MB} + \vec{MC} = 0$.
- ב. נתונה פירמידה משולשת SABC. הנקודה P היא מפגש התיכונים בפאה SBC. הוכח: $\vec{AP} = \frac{1}{3}(\vec{AB} + \vec{AC} + \vec{AS})$.
- ג. נתון בנוסף כי \vec{AS} ו- \vec{AP} מאונכים ל- \vec{BC} . הוכח כי $AB = AC$. (הדרכה: סמן $\vec{AB} = \underline{u}$, $\vec{AC} = \underline{v}$, $\vec{AS} = \underline{w}$).



38) הנקודה P נמצאת בתוך מרובע כלשהו ABCD

כך שהמשולשים APD ו-BPC הם משולשים ישרי זווית וש"ש ($AP = PD$, $BP = PC$).

הנקודה E היא אמצע הצלע CD. הוכח: $\vec{PE} \perp \vec{AB}$. (הדרכה: סמן $\vec{PB} = \underline{a}$, $\vec{PC} = \underline{b}$, $\vec{PA} = \underline{c}$, $\vec{PD} = \underline{d}$).

39) בטראדר SABC נתון: $\vec{AB} = \underline{u}$, $\vec{AC} = \underline{v}$, $\vec{AS} = \underline{w}$.

הנקודה P נמצאת על המקצוע AS ומקיימת: $\vec{AP} = \alpha \cdot \vec{AS}$.

הנקודה Q נמצאת על הפאה SBC ומקיימת: $\vec{SQ} = \beta(\vec{SB} + \vec{SC})$.

א. מצא את הקשר בין α ו- β שבעבורו \vec{PQ} מקביל למישור ABC.

ב. נתון: $\alpha = \beta = \frac{1}{3}$. הוכח: $\vec{PQ} \perp \vec{BC}$. $AB = AC$.

40) נתונה פירמידה שבסיסה מלבן. הוכח כי אם שלושה המקצועות הצדדיים שבה שווים, אז גם המקצוע הצדדי הרביעי שווה להם.

תשובות סופיות:

- (22) א. 3 ב. -10 ג. $6\sqrt{3}$ ד. -24 ה. 15 ו. 0.
- (23) א. 60° ב. 150° ג. 90° ד. 0° .
- (24) $|\overline{PQ}| = 18.248$
- (25) $|\overline{MN}| = \sqrt{29}$
- (26) 31.87°
- (27) 55.49°
- (28) 70.623°
- (29) 24.095°
- (30) א. $\alpha = \frac{3}{4}$ ב. $\cos(\sphericalangle PAQ) = \frac{1}{3\sqrt{1+\alpha^2}}$ ג. $\alpha = \frac{1}{2}$
- (31) שאלת הוכחה.
- (32) שאלת הוכחה.
- (33) שאלת הוכחה.
- (34) שאלת הוכחה.
- (35) שאלת הוכחה.
- (36) שאלת הוכחה.
- (37) שאלת הוכחה.
- (38) שאלת הוכחה.
- (39) א. $\alpha + 2\beta = 1$ ב. שאלת הוכחה.
- (40) שאלת הוכחה.