

# פיזיקה להנדסת מחשבים 141001

פרק 20 - חומרים דיאלקטריים

תוכן העניינים

1. הסברים ותרגילים.....1

## הסברים ותרגילים:

### רקע:

חומר דיאלקטרי הוא חומר מבודד (בפשטות, במקרים יותר מורכבים אפשר לדבר גם על חומרים דיאלקטרים מוליכים)

בחומר דיאלקטרי יש דיפולים, כאשר החומר נמצא בשדה חשמלי הדיפולים מתיישרים בכיוון השדה ויוצרים שדה נגדי.

השדה השקול בתוך החומר (בהנחה שהחומר אחיד ובעל סימטריה):

$$\vec{E}_T = \frac{\vec{E}_0}{\epsilon_r}$$

$\vec{E}_T$  - השדה השקול בתוך החומר, זה השדה שמרגיש מטען בתוך החומר.

$\vec{E}_0$  - שדה שנוצר מהמטען חיצוני (ולא מהדיפולים של החומר).

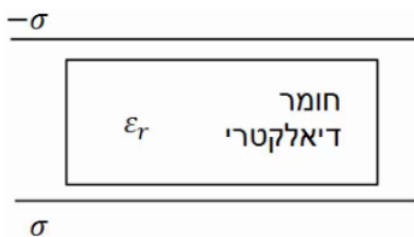
$\epsilon_r$  - מקדם דיאלקטרי יחסי, קבוע חסר יחידות שתלוי בסוג החומר וקיים בטבלאות.

לפעמים נתון המקדם הדיאלקטרי (הלא יחסי) והקשר הוא:

$$\epsilon = \epsilon_0 \cdot \epsilon_r$$

כאשר  $\epsilon_0 = \frac{1}{4\pi k} = 8.85 \frac{c^2}{N \cdot m^2}$  הוא המקדם הדיאלקטרי של הריק

### שאלות:



#### 1) חומר דיאלקטרי בין שני לוחות

חומר דיאלקטרי בעל מקדם  $\epsilon_r = 2$  מוכנס בין שני לוחות גדולים מאוד, הטעונים בצפיפות

מטען משטחית:  $\sigma = 3 \cdot 10^{-3} \frac{C}{m^2}$

$$\sigma = 3 \cdot 10^{-3} \frac{C}{m^2}$$

מהו השדה החשמלי בתוך החומר, אם הצפיפות בלוח העליון שלילית ובתחתון חיובית.

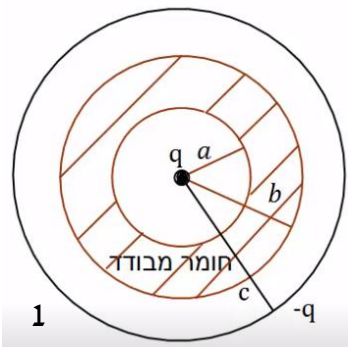
#### 2) מטען נקודתי בתוך מעטפת דיאלקטרית

מטען נקודתי  $q = 2 \cdot 10^{-6} C$  מוקף במעטפת כדורית

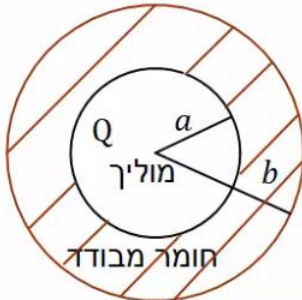
מבודדת בעלת רדיוס פנימי  $a = 5c.m$  ורדיוס

חיצוני  $b = 8c.m$ . המקדם הדיאלקטרי של המעטפת

המבודדת הוא:  $\epsilon_r = 3$ . את כל המערכת עוטפת



קליפה מוליכה דקה ברדיוס  $c = 10\text{cm}$  הטעונה במטען  $-q = -2 \cdot 10^{-6}\text{C}$ .  
 מהו השדה החשמלי בכל המרחב אם הקליפה המבודדת אינה טעונה?



### 3) כדור מוליך בתוך מעטפת דיאלקטרית

כדור מוליך ברדיוס  $a$  טעון במטען  $Q$ .  
 הכדור מוקף במעטפת עבה העשויה חומר דיאלקטרי בעל מקדם  $\epsilon_r$ . הרדיוס הפנימי של המעטפת הדיאלקטרית צמוד לרדיוס הכדור  $a$  והרדיוס החיצוני שווה ל-  $b$ .  
 הבא את השדה החשמלי בכל המרחב באמצעות הפרמטרים של הבעיה.

### תשובות סופיות:

$$E = 1.7 \cdot 10^8 \frac{\text{N}}{\text{C}} \quad (1)$$

$$E = \begin{cases} \frac{kq}{r^2} & r < a \\ \frac{kq}{\epsilon_r r^2} & a < r < b \\ \frac{kq}{r^2} & b < r < c \\ 0 & c < r \end{cases} \quad (2)$$

$$E = \begin{cases} 0 & r < a \\ \frac{kQ}{\epsilon_r r^2} & a < r < b \\ \frac{kQ}{r^2} & b < r \end{cases} \quad (3)$$

