

# אשנב למתמטיקה

פרק 9 - זהויות טריגונומטריות

תוכן העניינים

1	1. זהויות יסוד
5	2. ערכי הפונקציות הטריגונומטריות עבור זוויות מיוחדות
7	3. מעגל היחידה
10	4. סכום והפרש זוויות
14	5. זווית כפולה
17	6. סכום והפרש פונקציות
20	7. מכפלת פונקציות

## זהויות יסוד:

### סיכום כללי:

$\sin^2 \alpha + \cos^2 \alpha = 1$ $\tan \alpha \cdot \cot \alpha = 1$	$\tan \alpha = \frac{\sin \alpha}{\cos \alpha}$ , $\cot \alpha = \frac{\cos \alpha}{\sin \alpha}$	קשרים בין פונקציות
$\sin \alpha = \cos(90^\circ - \alpha)$	$\cos \alpha = \sin(90^\circ - \alpha)$	זוויות משלימות ל- $90^\circ$
$\tan \alpha = \cot(90^\circ - \alpha)$	$\cot \alpha = \tan(90^\circ - \alpha)$	
$\tan^2 \alpha + 1 = \frac{1}{\cos^2 \alpha}$	$\cot^2 \alpha + 1 = \frac{1}{\sin^2 \alpha}$	קשרים בין פונקציות

### שאלות:

#### הוכחת זהויות יסודית:

הוכח את הזהויות הבאות תוך שימוש בזהויות היסוד:

$$\frac{1 - \sin^2 \alpha}{\cos^2 \alpha} = 1 \quad (2)$$

$$\sin^2 \alpha + 2 \cos^2 \alpha = 1 + \cos^2 \alpha \quad (4)$$

$$(\sin \alpha + \cos \alpha)^2 + (\sin \alpha - \cos \alpha)^2 = 2 \quad (6)$$

$$\sin^2(\alpha + 45^\circ) + \sin^2(45^\circ - \alpha) = 1 \quad (8)$$

$$\frac{\sin \alpha (1 - \cos^2 \alpha)}{\cos^3 \alpha} = \tan^3 \alpha \quad (10)$$

$$\cos^2 \alpha (1 + \tan^2 \alpha) = 1 \quad (12)$$

$$\frac{\sin^3 \alpha}{\sin(90^\circ - \alpha) - \cos^3 \alpha} = \tan \alpha \quad (14)$$

$$\frac{1 - 2 \sin^2 \alpha \cos^2 \alpha}{\sin^2 \alpha \cdot \cos^2 \alpha} = \tan^2 \alpha + \cot^2 \alpha \quad (16)$$

$$\tan \alpha \cdot \cos \alpha = \sin \alpha \quad (1)$$

$$\frac{\sin \alpha}{\sqrt{1 - \sin^2 \alpha}} = \tan \alpha \quad (3)$$

$$\frac{\sin^2 \alpha}{1 + \cos \alpha} + \frac{\sin^2 \alpha}{1 - \cos \alpha} = 2 \quad (5)$$

$$\frac{\cos(90^\circ - \alpha)}{\cos \alpha} = \tan \alpha \quad (7)$$

$$\sqrt{1 + \tan^2 \alpha} \cdot \sqrt{1 - \cos^2 \alpha} = \tan \alpha \quad (9)$$

$$\frac{\sin(90^\circ - \alpha) - \cos^3 \alpha}{\sin^3 \alpha} = \cot \alpha \quad (11)$$

$$\frac{\sin \alpha \cdot \cos \alpha}{1 - \cos^2 \alpha} = \cot \alpha \quad (13)$$

$$\tan^2 \alpha - \sin^2 \alpha = \tan^2 \alpha \sin^2 \alpha \quad (15)$$

## הוכחות מתקדמות:

$$(17) \quad \frac{1 + \cos \alpha}{1 - \cos \alpha} + \frac{1 - \cos \alpha}{1 + \cos \alpha} = 2 + 4 \cot^2 \alpha \quad \text{הוכח את הזהות הבאה:}$$

$$(18) \quad \frac{1 + \tan \alpha}{1 - \tan \alpha} + \frac{1 - \tan \alpha}{1 + \tan \alpha} = \frac{2}{\cos^2 \alpha - \sin^2 \alpha} \quad \text{הוכח את הזהות הבאה:}$$

$$(19) \quad (\cot \alpha - \tan \alpha)(\cot \alpha + \tan \alpha) = (1 + \cot^2 \alpha)(1 + \tan^2 \alpha) \quad \text{הוכח את הזהות הבאה:}$$

$$(20) \quad \frac{\sin^4 \alpha + \cos^2 \alpha - \sin^2 \alpha}{\cos^4 \alpha + \sin^2 \alpha - \cos^2 \alpha} = \cot^4 \alpha \quad \text{הוכח את הזהות הבאה:}$$

$$(21) \quad 1 - \sin^2 \alpha (1 + \cos^2 \alpha) = \cos^4 \alpha \quad \text{הוכח את הזהות הבאה:}$$

$$(22) \quad \left( \sqrt{\frac{1 + \cos \alpha}{1 - \cos \alpha}} + \sqrt{\frac{1 - \cos \alpha}{1 + \cos \alpha}} \right)^2 = 4 + 4 \cot^2 \alpha \quad \text{הוכח את הזהות הבאה:}$$

$$(23) \quad \sin^2 \alpha \cos^2 \beta - \sin^2 \beta \cos^2 \alpha = \sin^2 \alpha - \sin^2 \beta \quad \text{הוכח את הזהות הבאה:}$$

$$(24) \quad \frac{\tan \alpha + \tan \beta}{\cot \alpha + \cot \beta} = \tan \alpha \tan \beta \quad \text{הוכח את הזהות הבאה:}$$

## הבעת ביטויים וחישובים באמצעות זהויות יסוד:

$$(25) \quad \text{נתון כי: } \sin \alpha + \cos \alpha = k$$

הבע באמצעות  $k$  את ערכי הביטויים הבאים:

א.  $\sin \alpha \cdot \cos \alpha$

ב.  $\sin \alpha - \cos \alpha$

ג.  $\tan \alpha + \cot \alpha$

ד.  $\sin^3 \alpha + \cos^3 \alpha$

$$(26) \quad \text{נתון כי: } \sin \alpha = \frac{\sqrt{5}}{5}$$

מבלי למצוא את  $\alpha$  חשב את:  $\tan^2 \alpha - 2 \cot^2 \alpha$

(27) נתון כי:  $\tan \alpha = \sqrt{7}$ .

מבלי למצוא את  $\alpha$  חשב את:  $\frac{\sqrt{7} \sin \alpha + 6 \cos \alpha}{\sqrt{28} \sin \alpha - \cos \alpha}$ .

(28) חשב את ערך המכפלה הבאה:  $\tan 1^\circ \cdot \tan 2^\circ \cdot \tan 3^\circ \cdot \dots \cdot \tan 88^\circ \cdot \tan 89^\circ$ .

### תשובות סופיות:

- (1) שאלת הוכחה.
- (2) שאלת הוכחה.
- (3) שאלת הוכחה.
- (4) שאלת הוכחה.
- (5) שאלת הוכחה.
- (6) שאלת הוכחה.
- (7) שאלת הוכחה.
- (8) שאלת הוכחה.
- (9) שאלת הוכחה.
- (10) שאלת הוכחה.
- (11) שאלת הוכחה.
- (12) שאלת הוכחה.
- (13) שאלת הוכחה.
- (14) שאלת הוכחה.
- (15) שאלת הוכחה.
- (16) שאלת הוכחה.
- (17) שאלת הוכחה.
- (18) שאלת הוכחה.
- (19) שאלת הוכחה.
- (20) שאלת הוכחה.
- (21) שאלת הוכחה.
- (22) שאלת הוכחה.
- (23) שאלת הוכחה.
- (24) שאלת הוכחה.

$$(25) \quad \text{א. } \frac{k^2 - 1}{2} \quad \text{ב. } \pm\sqrt{2 - k^2} \quad \text{ג. } \frac{2}{k^2 - 1} \quad \text{ד. } \frac{k}{2}(3 - k^2)$$

$$(26) \quad -7.75$$

$$(27) \quad 1$$

$$(28) \quad 1$$

## ערכי הפונקציות הטריגונומטריות עבור זוויות מיוחדות:

### סיכום כללי:

$\alpha = 90^\circ$	$\alpha = 60^\circ$	$\alpha = 45^\circ$	$\alpha = 30^\circ$	$\alpha = 0^\circ$	
1	$\frac{\sqrt{3}}{2}$	$\frac{\sqrt{2}}{2}$	$\frac{1}{2}$	0	$\sin \alpha$
0	$\frac{1}{2}$	$\frac{\sqrt{2}}{2}$	$\frac{\sqrt{3}}{2}$	1	$\cos \alpha$
$\phi$	$\sqrt{3}$	1	$\frac{\sqrt{3}}{3}$	0	$\tan \alpha$
0	$\frac{\sqrt{3}}{3}$	1	$\sqrt{3}$	$\phi$	$\cot \alpha$

### הערות:

- ערכי הפונקציות הטריגונומטריות עבור זוויות של  $0^\circ$  ו- $90^\circ$  תלמדנה בהמשך אך ניתנו כעת כדי להשלים את תמונת ערכי הזוויות.
- ניתן לזכור את הטבלה ע"י כתיבה של שורת הסינוס לפי:  $\frac{\sqrt{4}}{2}, \frac{\sqrt{3}}{2}, \frac{\sqrt{2}}{2}, \frac{\sqrt{1}}{2}, \frac{\sqrt{0}}{2}$  אשר נותנים את הערכים של השורה הראשונה לאחר פישוט קל. עבור שורת ה- $\cos \alpha$  יש להפוך את הערכים ולבסוף יש לחלק כל זוג ביטויים כדי לכתוב את ערכי  $\tan \alpha$  ולסובב עבור ערכי  $\cot \alpha$ .

### שאלות:

חשב ללא מחשבון את ערכי הביטויים הבאים תוך שימוש בערכי הפונקציות הטריגונומטריות של זוויות מיוחדות:

$$1) \sin 30^\circ + \cos 30^\circ$$

$$2) \frac{\sin 30^\circ \cdot \cos 30^\circ}{\sin 60^\circ}$$

$$3) \tan 45^\circ + \frac{\sin 45^\circ}{\cos 45^\circ}$$

$$\cdot \frac{1 + \cos 60^\circ}{2 \sin 60^\circ} \quad (4)$$

$$\cdot \cos^2 45^\circ + \sin^2 30^\circ \quad (5)$$

$$\cdot \frac{\tan^2 60^\circ \cdot \cos^2 30^\circ}{\cos^2 60^\circ} \quad (6)$$

$$\cdot \frac{\tan 30^\circ \cdot \cot 60^\circ - \cot 45^\circ \cdot \tan 45^\circ}{4 \left( \sin^2 60^\circ - \frac{1}{4} \right)} \quad (7)$$

$$\cdot \frac{27 \cot^4 60^\circ}{\sin 30^\circ \cdot \cos 45^\circ \cdot \tan 60^\circ} \quad (8)$$

### תשובות סופיות:

$$\frac{1 + \sqrt{3}}{2} \quad (1)$$

$$\frac{1}{2} \quad (2)$$

$$2 \quad (3)$$

$$\frac{3}{2\sqrt{3}} \quad (4)$$

$$\frac{3}{4} \quad (5)$$

$$9 \quad (6)$$

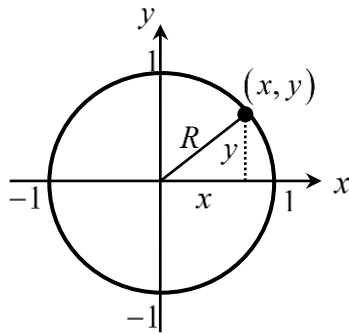
$$-\frac{1}{3} \quad (7)$$

$$2\sqrt{6} \quad (8)$$

## מעגל היחידה – הגדרה וזהויות:


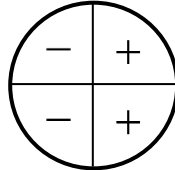
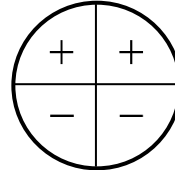
### סיכום כללי:

#### הגדרת מעגל היחידה:



- מעגל קנוני שרדיוסו 1 מוגדר להיות המעגל הטריגונומטרי.
- הנקודות  $(0, -1)$ ,  $(-1, 0)$ ,  $(0, 1)$ ,  $(1, 0)$  מתאימות לזוויות של  $270^\circ$ ,  $180^\circ$ ,  $90^\circ$ ,  $0^\circ$ .

#### הזהויות של המעגל הטריגונומטרי:

טנגנס	קוסינוס	סינוס	רביע
$\tan(180^\circ - \alpha) = -\tan \alpha$	$\cos(180^\circ - \alpha) = -\cos \alpha$	$\sin(180^\circ - \alpha) = \sin \alpha$	II
$\tan(180^\circ + \alpha) = \tan \alpha$	$\cos(180^\circ + \alpha) = -\cos \alpha$	$\sin(180^\circ + \alpha) = -\sin \alpha$	III
$\tan(-\alpha) = -\tan \alpha$	$\cos(-\alpha) = \cos \alpha$	$\sin(-\alpha) = -\sin \alpha$	VI
			סימנים

#### זהויות עבור זווית הגדולות מ-360 מעלות:

ניתן להוסיף או להוריד 'סיבובים' שלמים לזווית לפי:

$$\boxed{\sin(\alpha + 360^\circ k) = \sin \alpha} \quad \boxed{\tan(\alpha + 180^\circ k) = \tan \alpha}$$

$$\boxed{\cos(\alpha + 360^\circ k) = \cos \alpha} \quad \boxed{\cot(\alpha + 180^\circ k) = \cot \alpha}$$

כאשר  $k$  הוא מספר שלם מציין את מספר הסיבובים.

**שאלות:**

(1) העבר את הביטויים הבאים לביטויים עם זווית ברביע הראשון. אין צורך לחשב את ערך הביטוי:

א. $\sin 120^\circ$	ב. $\cos 150^\circ$
ג. $\tan 160^\circ$	ד. $\cot 130^\circ$
ה. $\sin 215^\circ$	ו. $\cos 245^\circ$
ז. $\tan 230^\circ$	ח. $\cot 200^\circ$
ט. $\sin 300^\circ$	י. $\cos 310^\circ$

(2) חשב את ערכי הביטויים הבאים ע"י שימוש בזהויות המעגל הטריגונומטרי:

א. $\sin 150^\circ$	ב. $\cos 210^\circ$	ג. $\tan 120^\circ$
ד. $\sin 330^\circ$	ה. $\tan 225^\circ$	ו. $\sin 315^\circ$
ז. $\cos 120^\circ$	ח. $\tan(-30^\circ)$	ט. $\cos(-45^\circ)$
י. $\sin 510^\circ$	יא. $\cos 930^\circ$	יב. $\tan(-225^\circ)$

(3) חשב את ערכי הביטויים הבאים ללא שימוש במחשבון:

$$\begin{aligned} \text{א. } & (\sin 240^\circ \cdot \tan 150^\circ + \cos(-60^\circ))^2 \\ \text{ב. } & 8\sin^2 150^\circ \cdot \tan 135^\circ - 2 \cdot \sin 135^\circ \cdot \cos(-135^\circ) \\ \text{ג. } & \frac{\cot 225^\circ}{\sin(-225^\circ) - \cos 135^\circ} + \tan^2 210^\circ \end{aligned}$$

(4) הוכח כי אם  $\alpha, \beta$  ו- $\gamma$  הן זוויות במשולש, אז מתקיים:

$$\begin{aligned} \text{א. } & \sin(\alpha + \beta) = \sin \gamma \\ \text{ב. } & \sin\left(\frac{\gamma + \beta}{2}\right) = \cos \frac{\alpha}{2} \end{aligned}$$

**תשובות סופיות:**

- (1) א.  $\sin 60^\circ$     ב.  $-\cos 30^\circ$     ג.  $-\tan 20^\circ$     ד.  $-\cot 50^\circ$   
 ה.  $-\sin 35^\circ$     ו.  $-\cos 65^\circ$     ז.  $\tan 50^\circ$     ח.  $\cot 20^\circ$   
 ט.  $-\sin 60^\circ$     י.  $\cos 50^\circ$
- (2) א.  $\frac{1}{2}$     ב.  $-\frac{\sqrt{3}}{2}$     ג.  $-\sqrt{3}$     ד.  $-\frac{1}{2}$   
 ה. 1    ו.  $-\frac{\sqrt{2}}{2}$     ז.  $-\frac{1}{2}$     ח.  $-\frac{\sqrt{3}}{3}$   
 ט.  $\frac{\sqrt{2}}{2}$     י.  $\frac{1}{2}$     יא.  $-\frac{\sqrt{3}}{2}$     יב. -1
- (3) א. 1    ב. -1    ג.  $\frac{1}{\sqrt{2}} + \frac{1}{3}$
- (4) שאלת הוכחה.

## סכום והפרש זוויות:

### סיכום כללי:

סכום והפרש עבור  $\sin(\alpha \pm \beta)$  ו- $\cos(\alpha \pm \beta)$  יחושב לפי:

$$\begin{aligned} \sin(\alpha \pm \beta) &= \sin \alpha \cos \beta \pm \sin \beta \cos \alpha \\ \cos(\alpha \pm \beta) &= \cos \alpha \cos \beta \mp \sin \alpha \sin \beta \end{aligned}$$

סכום והפרש עבור  $\tan(\alpha \pm \beta)$  ו- $\cot(\alpha \pm \beta)$

$$\begin{aligned} \tan(\alpha \pm \beta) &= \frac{\tan \alpha \pm \tan \beta}{1 \mp \tan \alpha \tan \beta} \\ \cot(\alpha \pm \beta) &= \frac{\cot \alpha \cot \beta \mp 1}{\cot \beta \pm \cot \alpha} \end{aligned}$$

### הערה:

בסרטון התיאוריה אין התייחסות מיוחדת לזהויות עבור  $\tan(\alpha \pm \beta)$  ו- $\cot(\alpha \pm \beta)$ .

### שאלות:

1) חשב את ערכי הביטויים הבאים תוך שימוש בזהויות של סכום והפרש זוויות וללא שימוש במחשבון:

א. $\sin 75^\circ$	ב. $\sin 15^\circ$	ג. $\sin 105^\circ$
ד. $\sin(-15^\circ)$	ה. $\cos 75^\circ$	ו. $\cos 15^\circ$
ז. $\cos(-105^\circ)$	ח. $\cos 165^\circ$	ט. $\cos(-195^\circ)$

2) חשב ללא שימוש במחשבון את ערכי הביטויים הבאים:

- א.  $\sin 65^\circ \cos 25^\circ + \sin 25^\circ \cos 65^\circ$   
 ב.  $5 \cos 50^\circ \cos 20^\circ + 5 \sin 50^\circ \sin 20^\circ$

(3) הוכח את הזהויות הבאות :

$$\text{א. } \sin(60^\circ + \alpha) + \sin(60^\circ - \alpha) = \sqrt{3} \cos \alpha$$

$$\text{ב. } \cos(45^\circ - \alpha) - \cos(45^\circ + \alpha) = \sqrt{2} \sin \alpha$$

$$\text{ג. } \sin(\alpha + \beta) \cdot \sin(\alpha - \beta) = \sin^2 \alpha - \sin^2 \beta$$

$$\text{ד. } \tan \alpha - \tan \beta = \frac{\sin(\alpha - \beta)}{\cos \alpha \cos \beta}$$

(4) נתון:  $\cos \alpha = \frac{4}{5}$ ,  $\cos \beta = \frac{8}{17}$  ו- $\alpha, \beta$  זוויות חדות.מבלי למצוא את הערכים של  $\alpha$  ו- $\beta$  חשב :

$$\text{א. } \sin(\alpha + \beta)$$

$$\text{ב. } \cos(\alpha + \beta)$$

$$\text{ג. } \tan(\alpha + \beta)$$

(5) הוכח את הזהות:  $\sin(\alpha + \beta) - \sin(\alpha - \beta) = 2 \sin \beta \cos \alpha$ (6) הוכח את הזהות:  $(\sin \alpha + \cos \alpha)(\sin 2\alpha + \cos 2\alpha) = \sin 3\alpha + \cos \alpha$ (7) הוכח את הזהות:  $\tan 7\alpha - \tan 5\alpha - \tan 2\alpha = \tan 7\alpha \tan 5\alpha \tan 2\alpha$ (8) הוכח את הזהות:  $\frac{\sin(\alpha - \beta)}{\cos(\alpha + \beta)} = \frac{\tan \alpha - \tan \beta}{1 - \tan \alpha \tan \beta}$ (9) הוכח את הזהות:  $\cot \alpha - \cot \beta = \frac{\sin(\beta - \alpha)}{\sin \alpha \sin \beta}$ 

(10) הוכח את הזהות הבאה :

$$\sin \alpha \cos \beta \cos \gamma + \cos \alpha \sin \beta \cos \gamma + \cos \alpha \cos \beta \sin \gamma - \sin \alpha \sin \beta \sin \gamma = \sin(\alpha + \beta + \gamma)$$

(11) הוכח כי מתקיים:  $\sin 65^\circ \cos 25^\circ + \sin 25^\circ \cos 65^\circ = 1$

(12) הוכח כי מתקיים:  $\tan 18^\circ \tan 27^\circ + \tan 18^\circ + \tan 27^\circ = 1$

(13) נתון כי:  $\sin 76^\circ = m$ . הבע את  $\sin 31^\circ$  באמצעות  $m$ .

(14) הזוויות  $\alpha$  ו- $\beta$  הן זוויות חדות.

נתון כי:  $\tan \beta = \frac{(2k-1)\sqrt{3}}{3}$  ו-  $\tan \alpha = \frac{(2-k)\sqrt{3}}{3k}$

הראה כי מתקיים:  $\alpha + \beta = 60^\circ$ .

(15) היעזר בנוסחה:  $\tan(\alpha \pm \beta) = \frac{\tan \alpha \pm \tan \beta}{1 \mp \tan \alpha \tan \beta}$  ומצא את  $\tan x$  ו-  $\tan y$

אם ידוע כי:  $\tan(x+y) = -3$  ו-  $\tan(x-y) = \frac{1}{3}$ . הבחן בין שני מקרים.

## תשובות סופיות:

$$(1) \quad \begin{array}{llll} \text{א. } \frac{\sqrt{6}+\sqrt{2}}{4} & \text{ב. } \frac{\sqrt{6}-\sqrt{2}}{4} & \text{ג. } \frac{\sqrt{6}+\sqrt{2}}{4} & \text{ד. } \frac{\sqrt{2}-\sqrt{6}}{4} \\ \text{ו. } \frac{\sqrt{6}+\sqrt{2}}{4} & \text{ז. } \frac{\sqrt{2}-\sqrt{6}}{4} & \text{ח. } -\frac{\sqrt{6}+\sqrt{2}}{4} & \text{ט. } -\frac{\sqrt{6}+\sqrt{2}}{4} \\ \text{י. } \frac{\sqrt{6}-\sqrt{2}}{4} & \text{יא. } \frac{\sqrt{6}-\sqrt{2}}{4} & \text{יב. } \frac{\sqrt{2}-\sqrt{6}}{4} & \text{יג. } \frac{\sqrt{2}-\sqrt{6}}{4} \end{array}$$

$$(2) \quad \begin{array}{ll} \text{א. } 1 & \text{ב. } \frac{5\sqrt{3}}{2} \end{array}$$

(3) שאלת הוכחה.

$$(4) \quad \begin{array}{ll} \text{א. } \frac{84}{85} & \text{ב. } -\frac{13}{85} \\ \text{ג. } -6\frac{6}{13} & \end{array}$$

(5) שאלת הוכחה.

(6) שאלת הוכחה.

(7) שאלת הוכחה.

(8) שאלת הוכחה.

(9) שאלת הוכחה.

(10) שאלת הוכחה.

(11) שאלת הוכחה.

(12) שאלת הוכחה.

(13) שאלת הוכחה.

$$(14) \quad \frac{\sqrt{2}}{2} (m - \sqrt{1-m^2})$$

(15) שאלת הוכחה.

$$(16) \quad 1 \text{ ו-} 2 \text{ או } -\frac{1}{2} \text{ ו-} -1$$

## זווית כפולה:

### סיכום כללי:

נפתח זווית כפולה לפי הצורות הבאות:

$$\begin{aligned} \sin 2\alpha &= 2\sin \alpha \cos \alpha \\ \cos 2\alpha &= \cos^2 \alpha - \sin^2 \alpha = 2\cos^2 \alpha - 1 = 1 - 2\sin^2 \alpha \end{aligned}$$

### שאלות:

(1) הוכח את הזהויות הבאות:

$$\begin{aligned} \text{א. } 4\sin \alpha \cos \alpha \cos 2\alpha &= \sin 4\alpha \\ \text{ב. } (\sin \alpha - \cos \alpha)^2 &= 1 - \sin 2\alpha \\ \text{ג. } (\sin 3\alpha - \cos 3\alpha)^2 &= 1 - \sin 6\alpha \\ \text{ד. } \cos^4 \alpha - \sin^4 \alpha &= \cos 2\alpha \\ \text{ה. } \frac{\cos \alpha}{\sin \alpha} - \frac{\sin \alpha}{\cos \alpha} &= 2 \cot 2\alpha \\ \text{ו. } \frac{\cos 2\alpha - 2\sin^2 \alpha \cos 2\alpha}{\sin 4\alpha} &= \frac{1}{2} \cot 2\alpha \\ \text{ז. } \cos^2 2\alpha &= 4\sin^4 \alpha - 4\sin^2 \alpha + 1 \\ \text{ח. } \cos 4\alpha &= 8\cos^4 \alpha - 8\cos^2 \alpha + 1 \end{aligned}$$

(2) הוכח את הזהות:  $\sin^3 \alpha = \frac{3\sin \alpha - \sin 3\alpha}{4}$  ע"י כתיבה של  $\sin 3\alpha$

לפי:  $\sin(\alpha + 2\alpha)$  ושימוש בזהויות שנלמדו.

(3) הוכח את הזהות:  $\cos^3 \alpha = \frac{3\cos \alpha + \cos 3\alpha}{4}$  ע"י כתיבה של  $\cos 3\alpha$

לפי:  $\cos(\alpha + 2\alpha)$  ושימוש בזהויות שנלמדו.

(4) נתונה זווית חדה  $\alpha$  המקיימת:  $\sin \alpha = \frac{40}{41}$ . מבלי להיעזר במחשבון חשב:

א.  $\cos \alpha$

ב.  $\tan \alpha$

ג.  $\sin 2\alpha$

ד.  $\cos 2\alpha$

ה.  $\tan 2\alpha$

(5) נתונה זווית חדה  $\alpha$  המקיימת:  $\tan \alpha = \frac{5}{12}$ . מבלי להיעזר במחשבון חשב:

א.  $\sin \alpha$ .

ב.  $\cos \alpha$ .

ג.  $\sin 2\alpha$ .

ד.  $\cos 2\alpha$ .

(6) נתונה זווית  $\alpha$  ברביע הראשון וזווית  $\beta$  ברביע השני המקיימות:  $\sin \alpha = \frac{5}{13}$

ו- $\cos \beta = -0.8$ . מבלי למצוא את  $\alpha$  ו- $\beta$  חשב את הביטויים הבאים:

א.  $\sin(\alpha + \beta)$ .

ב.  $\cos(\alpha + \beta)$ .

ג.  $\sin(2\alpha + \beta)$ .

(7) נתון כי  $\sin \alpha + \cos \alpha = 1.2$  עבור  $0^\circ < \alpha < 90^\circ$ . חשב את  $\sin 2\alpha$ .

(8) פשט את הביטוי הבא:  $\sqrt{\frac{1 + \cos 8\alpha}{2}}$

(9) ללא שימוש במחשבון, חשב את ערך הביטוי הבא:  $\frac{\sin 16^\circ \cos 16^\circ}{3 - 6 \sin^2 29^\circ}$

(10) ללא שימוש במחשבון, חשב את ערך הביטוי הבא:  $\frac{\sin^2 78^\circ - \cos^2 78^\circ}{\sin 66^\circ}$

(11) ללא שימוש במחשבון, חשב את ערך הביטוי הבא:  $\frac{5 \tan 15^\circ (1 - 2 \cos^2 15^\circ)}{1 - \tan^2 15^\circ}$

## תשובות סופיות:

(1) שאלת הוכחה.

(2) שאלת הוכחה.

(3) שאלת הוכחה.

$$(4) \quad \begin{array}{ll} \text{א. } \frac{9}{41} & \text{ב. } 4\frac{4}{9} \\ \text{ג. } \frac{720}{1681} & \text{ד. } -\frac{1519}{1681} \end{array}$$

$$\text{ה. } -\frac{720}{1519}$$

$$(5) \quad \begin{array}{ll} \text{א. } \frac{5}{13} & \text{ב. } \frac{12}{13} \\ \text{ג. } \frac{120}{169} & \text{ד. } \frac{119}{169} \end{array}$$

$$(6) \quad \begin{array}{ll} \text{א. } \frac{16}{65} & \text{ב. } -\frac{63}{65} \\ \text{ג. } -\frac{123}{845} & \end{array}$$

(7) .0.44

(8)  $\cos 4\alpha$ .

(9)  $\frac{1}{6}$ .

(10) .1

(11) .-1.25

## סכום והפרש פונקציות טריגונומטריות:

### סיכום כללי:

להלן נוסחאות הסכום וההפרש של פונקציות טריגונומטריות:

$$\begin{aligned} \sin \alpha + \sin \beta &= 2 \sin \frac{\alpha + \beta}{2} \cos \frac{\alpha - \beta}{2} \\ \sin \alpha - \sin \beta &= 2 \sin \frac{\alpha - \beta}{2} \cos \frac{\alpha + \beta}{2} \\ \cos \alpha + \cos \beta &= 2 \cos \frac{\alpha + \beta}{2} \cos \frac{\alpha - \beta}{2} \\ \cos \alpha - \cos \beta &= -2 \sin \frac{\alpha + \beta}{2} \sin \frac{\alpha - \beta}{2} \end{aligned}$$

### הערה:

בסרטון התיאוריה אין התייחסות לזהויות הסכום וההפרש של טנגנס ושל קוטנגנס עקב חוסר השימוש בהן בפתרון שאלות.

### שאלות:

- (1) הוכח את הזהות הבאה :  $\sin 5\alpha + \sin 3\alpha = 2 \sin 4\alpha \cos \alpha$
- (2) הוכח את הזהות הבאה :  $\sin 7\alpha - \sin 2\alpha = 2 \sin 2.5\alpha \cos 4.5\alpha$
- (3) הוכח את הזהות הבאה :  $\cos \alpha + \cos 5\alpha = 2 \sin 2\alpha \cos 3\alpha$
- (4) הוכח את הזהות הבאה :  $\cos 5\alpha - \cos 2\alpha = -2 \sin 3.5\alpha \cos 1.5\alpha$
- (5) הוכח את הזהות הבאה :  $\sin 3\alpha = 2 \sin 2\alpha \cos \alpha - \sin \alpha$
- (6) הוכח את הזהות הבאה :  $\sin^2 \alpha - \sin^2 \beta = \sin(\alpha + \beta) \sin(\alpha - \beta)$
- (7) הוכח את הזהות הבאה :  $\sin(2\alpha + \beta) - 2 \cos(\alpha + \beta) \sin \alpha = \sin \beta$
- (8) הוכח את הזהות הבאה :  $\frac{\sin 5\alpha - \sin \alpha}{\sin 4\alpha - \sin 2\alpha} = 2 \cos \alpha$

$$(9) \quad \frac{\sin 7\alpha - \sin 3\alpha}{\cos 4\alpha + \cos 6\alpha} = 2 \sin \alpha \quad \text{הוכח את הזהות הבאה:}$$

$$(10) \quad \frac{\sin \alpha + \sin 2\alpha + \sin 3\alpha}{\cos \alpha + \cos 2\alpha + \cos 3\alpha} = \tan 2\alpha \quad \text{הוכח את הזהות הבאה:}$$

$$(11) \quad \tan \alpha + \tan 3\alpha = \frac{2 \sin 4\alpha}{\cos 4\alpha + \cos 2\alpha} \quad \text{הוכח את הזהות הבאה:}$$

$$(12) \quad \text{פשט את הביטוי: } \frac{1 + \cos \alpha + \cos 2\alpha + \cos 3\alpha}{\cos \alpha + 2 \cos^2 \alpha - 1} \quad \text{ומצא את ערכו מבלי להיעזר}$$

$$\text{במחשבון אם ידוע כי } \sin \frac{\alpha}{2} = \frac{5}{6}$$

$$(13) \quad \text{נתון כי } \alpha \text{ ו-} \beta \text{ הן זוויות חדות המקיימות: } \sin \alpha = \frac{2mn}{m^2 + n^2} \text{ ו-} \sin \beta = \frac{n^2 - m^2}{m^2 + n^2}$$

$$\text{הראה כי: } \alpha + \beta = 90^\circ$$

$$(14) \quad \text{היעזר במעבר מכפל לסכום או הפרש}$$

$$\text{והוכח כי: } \cos 6\alpha \cos 2\alpha - \cos 5\alpha \cos \alpha = -\sin 7\alpha \sin \alpha$$

$$(15) \quad \text{היעזר במעבר מכפל לסכום או הפרש}$$

$$\text{והוכח כי: } \sin 4\alpha \sin 2\alpha - \sin 5\alpha \sin \alpha + \cos 3\alpha \cos \alpha = \cos 2\alpha$$

$$(16) \quad \text{חשב ללא מחשבון את ערך הביטוי הבא: } \sin 52.5^\circ \cdot \sin 7.5^\circ$$

$$(17) \quad \text{חשב ללא מחשבון את ערך הביטוי הבא: } \frac{\sin 35^\circ \sin 55^\circ}{\cos 40^\circ \cos 20^\circ} - 0.25$$

$$(18) \quad \text{חשב ללא מחשבון את ערך הביטוי הבא: } \cos 20^\circ \cos 40^\circ \cos 80^\circ$$

$$(19) \quad \text{חשב ללא מחשבון את ערך הביטוי הבא: } \sin 5^\circ \cdot \sin 25^\circ \cdot \sin 35^\circ \cdot \sin 55^\circ \cdot \sin 65^\circ \cdot \sin 85^\circ$$

**תשובות סופיות:**

(1) שאלת הוכחה.

(2) שאלת הוכחה.

(3) שאלת הוכחה.

(4) שאלת הוכחה.

(5) שאלת הוכחה.

(6) שאלת הוכחה.

(7) שאלת הוכחה.

(8) שאלת הוכחה.

(9) שאלת הוכחה.

(10) שאלת הוכחה.

(11) שאלת הוכחה.

(12)  $-\frac{7}{9}$ .

(13) שאלת הוכחה.

(14) שאלת הוכחה.

(15) שאלת הוכחה.

(16)  $\frac{\sqrt{2}-1}{4}$ .

(17) .1

(18)  $\frac{1}{8}$ .(19)  $\frac{1}{64}$ .

## מכפלת פונקציות:

### סיכום כללי:

להלן נוסחאות המעבר מסכום למכפלה וממכפלה לסכום:

$$\left\{ \begin{array}{l} \sin \alpha + \sin \beta = 2 \sin \frac{\alpha + \beta}{2} \cos \frac{\alpha - \beta}{2} \\ \sin \alpha - \sin \beta = 2 \sin \frac{\alpha - \beta}{2} \cos \frac{\alpha + \beta}{2} \\ \cos \alpha + \cos \beta = 2 \cos \frac{\alpha + \beta}{2} \cos \frac{\alpha - \beta}{2} \\ \cos \alpha - \cos \beta = -2 \sin \frac{\alpha + \beta}{2} \sin \frac{\alpha - \beta}{2} \end{array} \right. \quad \left\{ \begin{array}{l} \sin \alpha \cos \beta = \frac{1}{2} [\sin(\alpha + \beta) + \sin(\alpha - \beta)] \\ \cos \alpha \cos \beta = \frac{1}{2} [\cos(\alpha + \beta) + \cos(\alpha - \beta)] \\ \sin \alpha \sin \beta = \frac{1}{2} [\cos(\alpha - \beta) - \cos(\alpha + \beta)] \end{array} \right.$$

### שאלות:

- (1) הוכח את הזהות הבאה:  $\sin 7\alpha \cos \alpha = \frac{1}{2}(\sin 8\alpha + \sin 6\alpha)$
- (2) הוכח את הזהות הבאה:  $\cos 11\alpha \sin 3\alpha = \frac{1}{2}(\sin 14\alpha - \sin 8\alpha)$
- (3) הוכח את הזהות הבאה:  $\cos 4\alpha \cos 10\alpha = \frac{1}{2}(\cos 6\alpha + \cos 14\alpha)$
- (4) הוכח את הזהות הבאה:  $\sin 3\alpha \sin 7\alpha = \frac{1}{2}(\cos 4\alpha - \cos 10\alpha)$
- (5) הוכח את הזהות הבאה:  $2 \sin 7\alpha \sin 2\alpha + \cos 9\alpha = \cos 5\alpha$
- (6) הוכח את הזהות הבאה:  $\sin 7\alpha \cos 4\alpha - \sin 4\alpha \cos \alpha = \sin 3\alpha \cos 8\alpha$
- (7) הוכח את הזהות הבאה:  $\sin \alpha \sin 3\alpha = \cos 2\alpha - \cos 3\alpha \cos \alpha$
- (8) הוכח את הזהות הבאה:  $2(\sin^2 \beta - \sin^2 \alpha) = \cos 2\alpha - \cos 2\beta$
- (9) הוכח את הזהות הבאה:  $\frac{2}{\cot \beta - \tan \alpha} = \tan(\alpha + \beta) - \frac{\sin(\alpha - \beta)}{\cos(\alpha + \beta)}$

### תשובות סופיות:

- (1) הוכחה.
- (2) הוכחה.
- (3) הוכחה.
- (4) הוכחה.
- (5) הוכחה.
- (6) הוכחה.
- (7) הוכחה.
- (8) הוכחה.
- (9) הוכחה.