

# מתמטיקה מורחב

פרק 35 - וקטורים גיאומטרים

תוכן העניינים

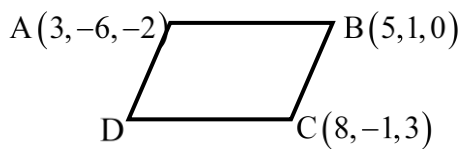
1. וקטורים ..... 1
2. מכפלה וקטורית ומכפלה מעורבת ..... 8
3. שימושי מכפלה וקטורית לגיאומטריה אנליטית במרחב ..... 10

## וקטורים

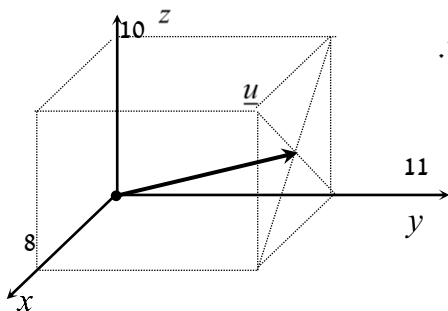
**הערת סימון:** נסמן את הווקטור  $u$  כך  $\underline{u}$ . סימונים מקובלים נוספים הם:  $\vec{u}, \underline{\underline{u}}$ .  
את גודל הווקטור  $\underline{u}$  נסמן כך  $|\underline{u}|$ . סימון מקובל נוסף הוא  $\|\underline{u}\|$ .  
גודל וקטור נקרא גם אורך הווקטור וגם הנורמה של הווקטור.

## שאלות

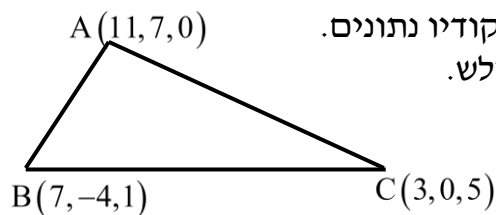
- (1) רשמו את נוסחת כל אחד מהווקטורים  $\vec{P}, \vec{Q}, \vec{R}, \vec{S}$  שבאיור. הניחו שאורך ורוחב כל משבצת באיור הוא יחידה אחת.



- (2) בשרטוט הבא נתונה מקבילית, ששיעורי שלושה מקדקודיה נתונים. מצאו את שיעורי הקדקוד D. רמז: היעזר בנוסחת אמצע קטע.



- (3) נתונה תיבה שמידותיה מצוינות במערכת הצירים. מצאו מהו הווקטור  $\underline{u}$  על פי השרטוט.



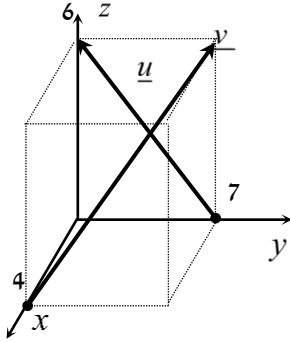
- (4) בשרטוט הבא נתון משולש ששיעורי קדקודיו נתונים. מצאו את שיעורי מפגש התיכונים במשולש.

(5) ענו על הסעיפים הבאים (אין קשר בין הסעיפים):

א. מצאו את הווקטור  $\overline{EF}$ , אם נתונות הנקודות  $E(2,0,-3)$  ו-  $F(7,-1,-3)$ .

ב. מצאו את שיעורי הנקודה  $N$ , אם נתונה הנקודה  $M(0,-4,1)$

והווקטור  $\overline{MN} = (-1,-1,9)$ .



(6) נתונה תיבה שמידותיה מצוינות במערכת הצירים שלפניך. מצאו מהו הווקטור  $\underline{u}$  ומהו הווקטור  $\underline{v}$ .

(7) מצאו את  $x$ ,  $y$  ו-  $z$ , אם נתון ש-  $\underline{u} = \underline{v}$ , כאשר  $\underline{u} = (4, -1, 2)$ ,  $\underline{v} = (z-2, y+1, x-3)$ .

(8) נתונות הנקודות הבאות:

$A(1,0,2)$ ,  $B(3,7,-4)$ ,  $C(6,9,0)$ ,  $D(7,4,10)$ ,  $E(9,11,4)$

א. הראו כי:  $\overline{AB} = \overline{DE}$ .

ב. האם ניתן לומר כי גם  $\overline{AD} = \overline{BC}$ ? נמק.



(9) בשרטוט נתונה מקבילית, ששיעורי שלושה מקדקודיה נתונים. מצאו את שיעורי הקדקוד  $D$ . \* אין להיעזר בפתרון בנוסחת אמצע קטע.

בשאלות 10-16 נתונים הווקטורים:  $\underline{w} = (2, 6, -5)$ ,  $\underline{v} = (4, -2, -6)$ ,  $\underline{u} = (-3, 1, 4)$ .  
 \* בשאלות 13, 14, 16 הסבירו את משמעות התוצאות מבחינה גיאומטרית.

(10) חשבו:

א.  $2\underline{u}$       ב.  $-0.5\underline{v}$       ג.  $3\underline{u} - 2\underline{v}$

(11) חשבו:

א.  $0.25\underline{v} - 0.5\underline{u}$       ב.  $\underline{v} - 0.5\underline{u} + 2\underline{w}$

(12)  $2\underline{v} - \underline{u} + 4\underline{w}$

(13)  $\underline{u} / |\underline{u}|$

(14)  $d(\underline{u}, \underline{v})$

(15)  $\underline{v} \cdot \underline{u} + 2\underline{w} \cdot \underline{v}$

(16)  $\text{proj}(\underline{u}, \underline{v})$

בשאלות 17-19 נתונות הנקודות:  $A(1, -3, 0)$ ,  $B(4, 2, -1)$ ,  $C(3, -1, 2)$ ,  
 ויש למצוא את הווקטורים:

(17)  $\overline{AC} + \overline{AB}$

(18)  $2\overline{AC} - 4\overline{AB}$

(19)  $2\overline{AC} + \overline{AB} - \overline{BC}$

(20) נתונים ארבעת קדקודי המרובע ABCD:

$A(-4, 2, 1)$ ,  $B(0, 2, -1)$ ,  $C(-3, -5, 0)$ ,  $D(-7, -5, 2)$

הוכיחו כי המרובע הוא מקבילית.

- (21)** נתונים ארבעת קדקודי המרובע ABCD :  
 $A(1, 2, 0)$  ,  $B(-2, 5, 3)$  ,  $C(-1, 8, 4)$  ,  $D(4, 3, -1)$   
 א. הוכיחו כי המרובע הוא טרפז.  
 ב. האם הטרפז שווה שוקיים?
- (22)** חשבו את הזווית שבין הווקטורים  $\underline{u}$  ו- $\underline{v}$  , כאשר :  
 א.  $\underline{u} = (-2, 2, 5)$  ,  $\underline{v} = (4, 0, 1)$   
 ב.  $\underline{u} = (6, -3, 1)$  ,  $\underline{v} = (2, 5, 3)$   
 ג.  $\underline{u} = (-2, 1, 3)$  ,  $\underline{v} = (4, -2, -6)$
- (23)** מצאו את שטחו של משולש ABC , שקדקודיו הם :  
 $A(-3, 2, 1)$  ,  $B(0, 3, 2)$  ,  $C(5, -1, 0)$
- (24)** נתונים הווקטורים :  $\underline{u} = (2, -1, 0)$  ,  $\underline{v} = (5, 0, 3)$   
 מצאו וקטור  $\underline{w}$  , שמכפלתו ב- $\underline{u}$  היא 0 ומכפלתו ב- $\underline{v}$  היא 0 ,  
 אם ידוע שגודלו הוא  $\sqrt{70}$  .
- (25)** מצאו וקטור שמאונך לשני הווקטורים  $(3, 2, 1)$  ו- $(1, -1, 2)$  ,  
 ושמרחקו מהווקטור  $(1, 1, 0)$  הוא  $\sqrt{3}$  .
- (26)** ענו על שני הסעיפים הבאים :  
 א. הוכיחו כי  $\underline{u} \perp \underline{v} \Leftrightarrow |\underline{u} + \underline{v}| = |\underline{u} - \underline{v}|$   
 הסבירו מהו הפירוש הגיאומטרי של תכונה זו במישור.  
 ב. הוכיחו כי  $\underline{u} \perp \underline{v} \Leftrightarrow |\underline{u} + \underline{v}|^2 = |\underline{u}|^2 + |\underline{v}|^2$   
 הסבירו מהו הפירוש הגיאומטרי של תכונה זו במישור.
- (27)** ענו על חמשת הסעיפים הבאים :  
 א. הוכיחו כי  $|\underline{u} + \underline{v}|^2 = |\underline{u}|^2 + 2\underline{u} \cdot \underline{v} + |\underline{v}|^2$   
 ב. הוכיחו כי  $|\underline{u} - \underline{v}|^2 = |\underline{u}|^2 - 2\underline{u} \cdot \underline{v} + |\underline{v}|^2$   
 ג. הוכיחו כי  $(\underline{u} - \underline{v})(\underline{u} + \underline{v}) = |\underline{u}|^2 - |\underline{v}|^2$   
 ד. הוכיחו כי  $|\underline{u} + \underline{v}|^2 + |\underline{u} - \underline{v}|^2 = 2|\underline{u}|^2 + 2|\underline{v}|^2$   
 תנו פירוש גיאומטרי לתוצאה במישור.  
 ה. הוכיחו כי  $\frac{1}{4}(|\underline{u} + \underline{v}|^2 - |\underline{u} - \underline{v}|^2) = \underline{u} \cdot \underline{v}$

**(28)** יהיו  $u, v \in \mathbb{R}^n$  וקטורים שונים מ-0, אורתוגונליים זה לזה ובעלי אותה נורמה. נגדיר  $a = u - 2v$ ,  $b = 3u + v$ . אם  $\alpha$  היא הזווית בין  $a$  ל- $b$ , אז  $\cos \alpha$  שווה ל-?

**(29)** יהיו  $w_1, w_2 \in \mathbb{R}^n$  וקטורים שונים מ-0, אורתוגונליים זה לזה ובעלי נורמה  $k$ . יהי  $v = \alpha w_1 + \frac{3}{4} w_2$  וקטור שמרחקו מ- $2w_2$  שווה למרחקו מ- $w_1$ . מהו המרחק של  $v$  מ- $w_1$ ?

**(30)** יהיו  $u, v \in \mathbb{R}^n$  וקטורי יחידה המקיימים  $\|u - v\| = 2$ . הוכיחו ש- $u$  ו- $v$  הם בהכרח כפולה בסקלר אחד של השני.

## תשובות סופיות

$$\vec{P} = (4, 0, 7), \quad \vec{Q} = (-2, 1, 3), \quad \vec{R} = (6, 4, 0), \quad \vec{S} = (-2, 4, 0) \quad (1)$$

$$D = (6, -8, 1) \quad (2)$$

$$\underline{u} = (4, 11, 5) \quad (3)$$

$$M = (7, 1, 2) \quad (4)$$

$$N = (-1, -5, 10) \quad \text{ב.} \quad \vec{EF} = (5, -1, 0) \quad \text{א.} \quad (5)$$

$$\underline{u} = (0, -7, 6), \quad \underline{v} = (-4, 7, 6) \quad (6)$$

$$z = 6, \quad y = -2, \quad x = 5 \quad \text{א.} \quad (7)$$

$$\text{א. הוכחה.} \quad \text{ב. לא.} \quad (8)$$

$$D = (6, -8, 1) \quad (9)$$

$$\text{א.} \quad (-6, 2, 8) \quad \text{ב.} \quad (-2, 1, 3) \quad \text{ג.} \quad (-17, 7, 24) \quad (10)$$

$$\text{א.} \quad (2.5, -1, -3.5) \quad \text{ב.} \quad (9.5, 9.5, -18) \quad (11)$$

$$(19, 19, -36) \quad (12)$$

$$\left( \frac{-3}{\sqrt{20}}, \frac{1}{\sqrt{20}}, \frac{4}{\sqrt{20}} \right) \quad (13)$$

$$\sqrt{158} \quad (14)$$

$$14 \quad (15)$$

$$\underline{u}^* \quad (16)$$

$$(5, 7, 1) \quad (17)$$

$$(-8, -16, 8) \quad (18)$$

$$(8, 12, 0) \quad (19)$$

$$\text{שאלת הוכחה.} \quad (20)$$

$$\text{א. שאלת הוכחה.} \quad \text{ב. כן.} \quad (21)$$

$$\text{א.} \quad \alpha = 97.277^\circ \quad \text{ב.} \quad \alpha = 90^\circ \quad \text{ג.} \quad \alpha = 180^\circ \quad (22)$$

$$S_{\triangle ABC} = 10.173 \quad \text{יח"ש.} \quad (23)$$

$$(-3, -6, 5) \quad (24)$$

$$v = \left( \frac{1}{\sqrt{3}}, -\frac{1}{\sqrt{3}}, -\frac{1}{\sqrt{3}} \right) \quad \text{or} \quad v = \left( -\frac{1}{\sqrt{3}}, \frac{1}{\sqrt{3}}, \frac{1}{\sqrt{3}} \right) \quad (25)$$

$$\text{שאלת הוכחה.} \quad (26)$$

$$\text{שאלת הוכחה.} \quad (27)$$

$$\frac{1}{\sqrt{50}} \quad (28)$$

$$\frac{5}{4}k \quad (29)$$

(30) שאלת הוכחה.

## מכפלה וקטורית ומכפלה מעורבת

### שאלות

$$(1) \quad \text{נתון: } u = \begin{pmatrix} 1 \\ 0 \\ 1 \end{pmatrix}, v = \begin{pmatrix} 0 \\ 1 \\ 1 \end{pmatrix}, w = \begin{pmatrix} 0 \\ 1 \\ 0 \end{pmatrix}$$

חשבו:  $(u \times v) \times w$ .

$$(2) \quad \text{חשבו את שטח המשולש, שקדקודיו: } A(8, 2, 3), B(4, -1, 2), C(-8, 0, 4)$$

(3) נתונים שלושה וקטורים  $u, v, w$  במרחב.

$$\text{ידוע כי: } |u| \neq 0, \quad u \cdot w = 0, \quad u \times v = 0,$$

$$\text{הוכיחו כי: } v \cdot w = 0.$$

(4) נתונים שני וקטורים  $u, v$  במרחב.

$$\text{ידוע כי: } |v| = 4, \quad |u| = 1, \quad u \perp v$$

$$\text{חשבו: } |(u+v) \times (u-v)|$$

$$(5) \quad \text{נתון } u = \begin{pmatrix} 1 \\ 2 \\ 3 \end{pmatrix}, v = \begin{pmatrix} 4 \\ 5 \\ 6 \end{pmatrix}, w = \begin{pmatrix} 7 \\ 8 \\ 10 \end{pmatrix}$$

חשבו:

$$\text{א. } u \cdot (v \times w) \quad \text{ב. } v \cdot (w \times u) \quad \text{ג. } (u \times v) \cdot w$$

(6) ענו על הסעיפים הבאים:

א. חשבו את נפח המקבילון שקדקודיו  $A(1, 1, 1), B(2, 2, 2), C(3, 0, 2), D(4, 1, 1)$

ב. חשבו את נפח הפירמידה שקדקודה  $A(1, 1, 1), B(2, 2, 2), C(3, 0, 2), D(4, 1, 1)$

(7) חשבו את נפח הפירמידה שקדקודה  $A(2, 2, 5), B(1, -1, -4), C(3, 3, 10), D(8, 6, 3)$

8 נתון מקבילון הבנוי על וקטורים  $a, b, c$ .  
הוכיחו כי נפח המקבילון, הבנוי על הווקטורים  $a, a-b, a+b-4c$ ,  
שווה לפי 4 מנפח המקבילון הנתון.

9 נתונים שלושה וקטורים  $u, v, w$  במרחב.  
הוכיחו כי  $[(u+v) \times (v+w)](u+w) = 2w \cdot (u \times v)$ .

10 נתונים שלושה וקטורים  $u, v, w$  במרחב.  
ידוע כי:  $u \cdot (v \times w) = 4$ .  
חשבו:

א.  $u \cdot (w \times v)$

ב.  $(v \times w) \cdot u$

ג.  $w \cdot (u \times v)$

ד.  $v \cdot (u \times w)$

11 נתונים שלושה וקטורים  $a, b, c$  במרחב.  
מהי הנוסחה עבור  $a \times b \times c$ ?

### תשובות סופיות

(1)  $\begin{pmatrix} -1 \\ 0 \\ -1 \end{pmatrix}$

(2)  $S = 22.5$

(3) שאלת הוכחה.

(4) 8

(5) א. -3      ב. -3      ג. -3

(6) א. -6      ב. 1

(7)  $9\frac{1}{3}$

(8) שאלת הוכחה.

(9) שאלת הוכחה.

(10) א. -4      ב. 4      ג. 4      ד. 4

(11) אין לו נוסחה.

## שימושי מכפלה וקטורית לגיאומטריה אנליטית במרחב

### שאלות

(1) הוכיחו שהנקודות הבאות נמצאות על מישור אחד:  
 $A = (1, 2, 1)$ ,  $B(1, 1, 1)$ ,  $C = (2, 1, 2)$ ,  $D(2, 2, 2)$

(2) מצאו את מרחק הנקודה  $A(3, -2, 1)$  מהישר  $L: (-10, 8, -8) + t(2, -1, 2)$ .

(3) נתונים שני ישרים:

$$L_1: \frac{x-2}{2} = 3-y = \frac{z-4}{3}, \quad L_2: x+7 = y-5, z=3$$

- א. הוכיחו שהישרים מצטלבים.  
 ב. מצאו את המרחק בין הישרים.

### תשובות סופיות

(1) שאלת הוכחה.

(2)  $\sqrt{26}$

(3) א. שאלת הוכחה. ב. 5.7735