

מתמטיקה למנהל עסקים

פרק 24 - המרחב R^n

תוכן העניינים

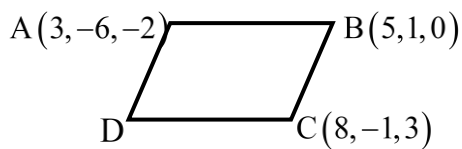
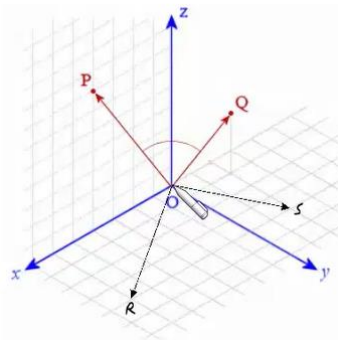
1. וקטורים.....1
2. צירופים ליניאריים, פרישה ליניארית ותלות ליניארית.....6

וקטורים

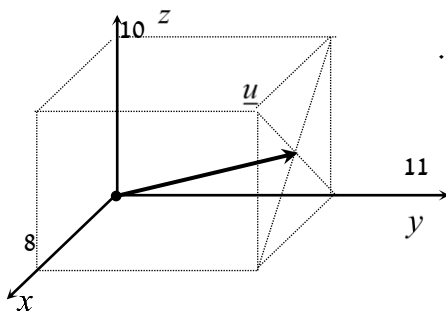
הערת סימון: אנו נסמן את הווקטור u כך: \underline{u} . סימונים מקובלים נוספים הם: \vec{u} , $\underline{\underline{u}}$.
 את גודל הווקטור \underline{u} נסמן כך $|\underline{u}|$. סימון מקובל נוסף הוא $\|\underline{u}\|$.
 גודל וקטור נקרא גם אורך הווקטור וגם הנורמה של הווקטור.

שאלות

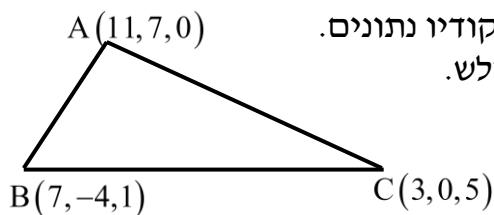
- (1) רשמו את נוסחת כל אחד מהווקטורים $\vec{P}, \vec{Q}, \vec{R}, \vec{S}$ שבאיור. הניחו שאורך ורוחב כל משבצת באיור הוא יחידה אחת.



- (2) בשרטוט הבא נתונה מקבילית, ששיעורי שלושה מקדקודיה נתונים. מצאו את שיעורי הקדקוד D. רמז: היעזרו בנוסחת אמצע קטע.



- (3) נתונה תיבה שמידותיה מצוינות במערכת הצירים. מצאו מהו הווקטור \underline{u} על פי השרטוט.



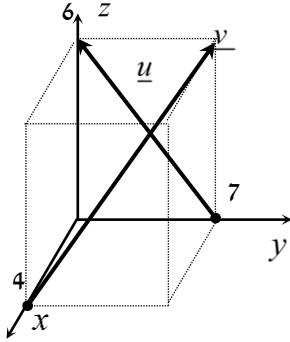
- (4) בשרטוט הבא נתון משולש ששיעורי קדקודיו נתונים. מצאו את שיעורי מפגש התיכונים במשולש.

(5) ענו על הסעיפים הבאים (אין קשר בין הסעיפים):

א. מצאו את הווקטור \overline{EF} , אם נתונות הנקודות $E(2,0,-3)$ ו- $F(7,-1,-3)$.

ב. מצאו את שיעורי הנקודה N , אם נתונה הנקודה $M(0,-4,1)$

והווקטור $\overline{MN} = (-1,-1,9)$.



(6) נתונה תיבה שמידותיה מצוינות במערכת הצירים שלפניך. מצאו מהו הווקטור \underline{u} ומהו הווקטור \underline{v} .

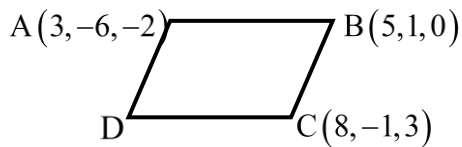
(7) מצאו את x , y ו- z , אם נתון ש- $\underline{u} = \underline{v}$, כאשר $\underline{u} = (4, -1, 2)$, $\underline{v} = (z-2, y+1, x-3)$.

(8) נתונות הנקודות הבאות:

$A(1,0,2)$, $B(3,7,-4)$, $C(6,9,0)$, $D(7,4,10)$, $E(9,11,4)$

א. הראו כי: $\overline{AB} = \overline{DE}$.

ב. האם ניתן לומר כי גם $\overline{AD} = \overline{BC}$? נמקו.



(9) בשרטוט נתונה מקבילית, ששיעורי שלושה מקדקודיה נתונים. מצאו את שיעורי הקדקוד D . * אין להיעזר בפתרון בנוסחת אמצע קטע.

בשאלות 10-16 נתונים הווקטורים $\underline{w} = (2, 6, -5)$, $\underline{v} = (4, -2, -6)$, $\underline{u} = (-3, 1, 4)$.
 * בשאלות 13, 14, 16 הסבירו את משמעות התוצאות מבחינה גיאומטרית.

(10) חשבו:

א. $2\underline{u}$ ב. $-0.5\underline{v}$ ג. $3\underline{u} - 2\underline{v}$

(11) חשבו:

א. $0.25\underline{v} - 0.5\underline{u}$ ב. $\underline{v} - 0.5\underline{u} + 2\underline{w}$

(12) $2\underline{v} - \underline{u} + 4\underline{w}$

(13) $\underline{u} / |\underline{u}|$

(14) $d(\underline{u}, \underline{v})$

(15) $\underline{v} \cdot \underline{u} + 2\underline{w} \cdot \underline{v}$

(16) $\text{proj}(\underline{u}, \underline{v})$

בשאלות 17-19 נתונות הנקודות $A(1, -3, 0)$, $B(4, 2, -1)$, $C(3, -1, 2)$,
 ויש למצוא את הווקטורים:

(17) $\overline{AC} + \overline{AB}$

(18) $2\overline{AC} - 4\overline{AB}$

(19) $2\overline{AC} + \overline{AB} - \overline{BC}$

(20) נתונים ארבעת קדקודי המרובע ABCD:

$A(-4, 2, 1)$, $B(0, 2, -1)$, $C(-3, -5, 0)$, $D(-7, -5, 2)$

הוכיחו כי המרובע הוא מקבילית.

(21) נתונים ארבעת קדקודי המרובע ABCD :
 $A(1, 2, 0)$, $B(-2, 5, 3)$, $C(-1, 8, 4)$, $D(4, 3, -1)$

א. הוכיחו כי המרובע הוא טרפז.

ב. האם הטרפז שווה שוקיים?

(22) חשבו את הזווית שבין הווקטורים \underline{u} ו- \underline{v} , כאשר :

א. $\underline{u} = (-2, 2, 5)$, $\underline{v} = (4, 0, 1)$

ב. $\underline{u} = (6, -3, 1)$, $\underline{v} = (2, 5, 3)$

ג. $\underline{u} = (-2, 1, 3)$, $\underline{v} = (4, -2, -6)$

תשובות סופיות

$$\vec{P} = (4, 0, 7), \quad \vec{Q} = (-2, 1, 3), \quad \vec{R} = (6, 4, 0), \quad \vec{S} = (-2, 4, 0) \quad (1)$$

$$D = (6, -8, 1) \quad (2)$$

$$\underline{u} = (4, 11, 5) \quad (3)$$

$$M = (7, 1, 2) \quad (4)$$

$$N = (-1, -5, 10) \quad \text{ב.} \quad \vec{EF} = (5, -1, 0) \quad \text{א.} \quad (5)$$

$$\underline{u} = (0, -7, 6), \quad \underline{v} = (-4, 7, 6) \quad (6)$$

$$z = 6, \quad y = -2, \quad x = 5 \quad \text{א.} \quad (7)$$

$$\text{א. שאלת הוכחה.} \quad \text{ב. לא.} \quad (8)$$

$$D = (6, -8, 1) \quad (9)$$

$$\text{א.} \quad (-6, 2, 8) \quad \text{ב.} \quad (-2, 1, 3) \quad \text{ג.} \quad (-17, 7, 24) \quad (10)$$

$$\text{א.} \quad (2.5, -1, -3.5) \quad \text{ב.} \quad (9.5, 9.5, -18) \quad (11)$$

$$(19, 19, -36) \quad (12)$$

$$\left(\frac{-3}{\sqrt{20}}, \frac{1}{\sqrt{20}}, \frac{4}{\sqrt{20}} \right) \quad (13)$$

$$\sqrt{158} \quad (14)$$

$$14 \quad (15)$$

$$\underline{u}^* \quad (16)$$

$$(5, 7, 1) \quad (17)$$

$$(-8, -16, 8) \quad (18)$$

$$(8, 12, 0) \quad (19)$$

$$\text{שאלת הוכחה.} \quad (20)$$

$$\text{א. שאלת הוכחה.} \quad \text{ב. כן.} \quad (21)$$

$$\text{א.} \quad \alpha = 97.277^\circ \quad \text{ב.} \quad \alpha = 90^\circ \quad \text{ג.} \quad \alpha = 180^\circ \quad (22)$$

צירופים לינאריים, פרישה לינארית ותלות לינארית

בשאלות 1-7 נתונים הווקטורים הבאים:

$$u_1 = (4, 1, 1, 5), \quad u_2 = (0, 11, -5, 3), \quad u_3 = (2, -5, 3, 1), \quad u_4 = (1, 3, -1, 2)$$

- (1) א. האם u_1 הוא צירוף לינארי של u_4 ?
 ב. האם u_1 שייך ל- $Sp\{u_4\}$?
 ג. האם הקבוצה $\{u_1, u_4\}$ תלויה לינארית?
- (2) א. האם u_3 הוא צירוף לינארי של u_1 ו- u_2 ?
 ב. האם u_3 שייך ל- $Sp\{u_1, u_2\}$?
 ג. האם הקבוצה $\{u_1, u_2, u_3\}$ תלויה לינארית?
 במידה וכן, רשמו כל וקטור בקבוצה כצירוף לינארי של הווקטורים האחרים.
- (3) א. האם u_4 הוא צירוף לינארי של u_1 ו- u_2 ?
 ב. האם u_4 שייך ל- $Sp\{u_1, u_2\}$?
 ג. האם הקבוצה $\{u_1, u_2, u_4\}$ תלויה לינארית?
 במידה וכן, רשמו כל וקטור בקבוצה כצירוף לינארי של הווקטורים האחרים.
- (4) נתון $v = (4, 12, k, -2k)$.
 א. מה צריך להיות ערכו של k , על מנת שהווקטור v יהיה צירוף לינארי של u_1 ו- u_2 ?
 ב. מה צריך להיות ערכו של k , על מנת שהווקטור v יהיה שייך ל- $Sp\{u_1, u_2\}$?
 ג. מה צריך להיות ערכו של k , על מנת שהקבוצה $\{u_1, u_2, v\}$ תהיה תלויה לינארית?
- (5) נתון $v = (a, b, c, d)$.
 א. מה התנאים על a, b, c, d , על מנת שהווקטור v יהיה צירוף לינארי של u_1 ו- u_2 ?
 ב. מה התנאים על a, b, c, d , על מנת שהווקטור v יהיה שייך ל- $Sp\{u_1, u_2\}$?
 ג. מה התנאים על a, b, c, d , על מנת שהקבוצה $\{u_1, u_2, v\}$ תהיה תלויה לינארית?

- (6) הביעו את הווקטור $(10, 8, 0, 14)$ כצירוף לינארי של u_1, u_2 ו- u_3 .
 בכמה אופנים ניתן לעשות זאת?
- (7) הביעו את הווקטור $(7, 10, -2, 11)$ כצירוף לינארי של u_1, u_2, u_3 ו- u_4 .
 בכמה אופנים ניתן לעשות זאת?
- (8) עבור איזה ערכים של a, b, c , הווקטורים הבאים תלויים לינארית:
 $\{(c, 2, 4), (2, 4, a, 2), (c, b, 6), (b, 2, a)\}$

תשובות סופיות

- (1) א. לא. ב. לא. ג. לא.
- (2) א. כן. ב. כן. ג. כן, $u_2 = u_1 - 2u_3$, $u_1 = 2u_3 + u_2$.
- (3) א. כן. ב. כן. ג. כן, $u_2 = 4u_4 - u_1$, $u_1 = 4u_4 - u_2$.
- (4) א-ג. $k = -4$
- (5) $a = 5t + 3s$, $b = 4t - 13s$, $c = 7s$, $d = 7t$
- (6) אינסוף.
- (7) אינסוף.
- (8) לכל ערך של a, b, c .