

# אלגברה ליניארית

פרק 3 - המרחב  $R^n$

תוכן העניינים

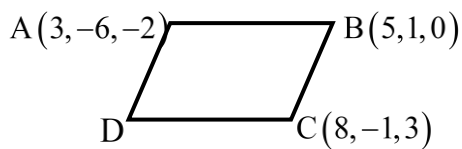
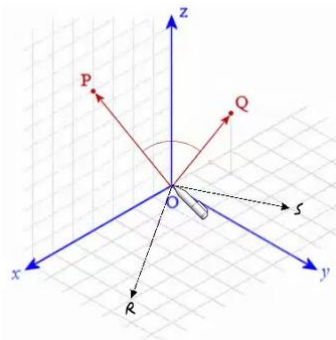
1. וקטורים ..... 1
2. מרחב וקטורי ..... 6
3. צירופים ליניאריים, פרישה ליניארית ותלות ליניארית ..... 7
4. בסיס ומימד, דרגה של מטריצה ..... 9
5. חיתוך, סכום וסכום ישר של תת-מרחבים ..... 12
6. וקטור קואורדינטות ומטריצת מעבר מבסיס לבסיס ..... 14

## וקטורים

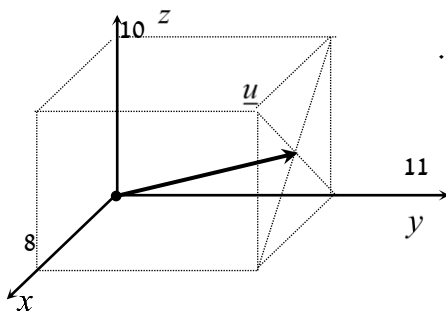
**הערת סימון:** אנו נסמן את הווקטור  $u$  כך:  $\underline{u}$ . סימונים מקובלים נוספים הם:  $\vec{u}$ ,  $\underline{\underline{u}}$ .  
את גודל הווקטור  $\underline{u}$  נסמן כך  $|\underline{u}|$ . סימון מקובל נוסף הוא  $\|\underline{u}\|$ .  
גודל וקטור נקרא גם אורך הווקטור וגם הנורמה של הווקטור.

### שאלות

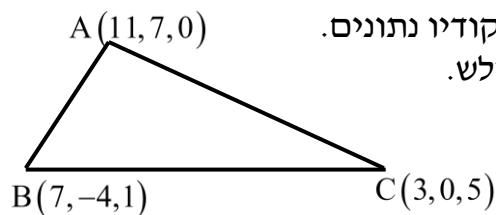
- (1) רשמו את נוסחת כל אחד מהווקטורים  $\vec{P}, \vec{Q}, \vec{R}, \vec{S}$  שבאיור. הניחו שאורך ורוחב כל משבצת באיור הוא יחידה אחת.



- (2) בשרטוט הבא נתונה מקבילית, ששיעורי שלושה מקדקודיה נתונים. מצאו את שיעורי הקדקוד D. רמז: היעזרו בנוסחת אמצע קטע.



- (3) נתונה תיבה שמידותיה מצוינות במערכת הצירים. מצאו מהו הווקטור  $\underline{u}$  על פי השרטוט.



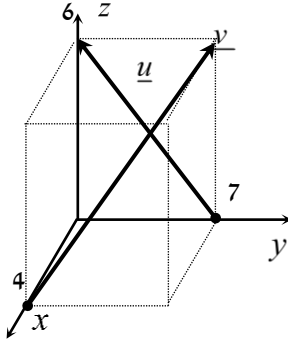
- (4) בשרטוט הבא נתון משולש ששיעורי קדקודיו נתונים. מצאו את שיעורי מפגש התיכונים במשולש.

(5) ענו על הסעיפים הבאים (אין קשר בין הסעיפים):

א. מצאו את הווקטור  $\overline{EF}$ , אם נתונות הנקודות  $E(2,0,-3)$  ו-  $F(7,-1,-3)$ .

ב. מצאו את שיעורי הנקודה  $N$ , אם נתונה הנקודה  $M(0,-4,1)$

והווקטור  $\overline{MN} = (-1,-1,9)$ .



(6) נתונה תיבה שמידותיה מצוינות במערכת הצירים שלפניך. מצאו מהו הווקטור  $\underline{u}$  ומהו הווקטור  $\underline{v}$ .

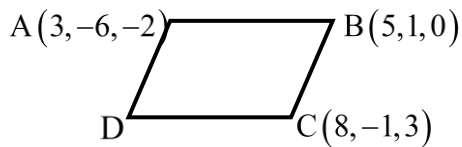
(7) מצאו את  $x$ ,  $y$  ו-  $z$ , אם נתון ש-  $\underline{u} = \underline{v}$ , כאשר  $\underline{u} = (4, -1, 2)$ ,  $\underline{v} = (z-2, y+1, x-3)$ .

(8) נתונות הנקודות הבאות:

$A(1,0,2)$ ,  $B(3,7,-4)$ ,  $C(6,9,0)$ ,  $D(7,4,10)$ ,  $E(9,11,4)$

א. הראו כי:  $\overline{AB} = \overline{DE}$ .

ב. האם ניתן לומר כי גם  $\overline{AD} = \overline{BC}$ ? נמקו.



(9) בשרטוט נתונה מקבילית, ששיעורי שלושה מקדקודיה נתונים. מצאו את שיעורי הקדקוד  $D$ . \* אין להיעזר בפתרון בנוסחת אמצע קטע.

בשאלות 10-16 נתונים הווקטורים  $\underline{w} = (2, 6, -5)$ ,  $\underline{v} = (4, -2, -6)$ ,  $\underline{u} = (-3, 1, 4)$ .  
 \* בשאלות 13, 14, 16 הסבירו את משמעות התוצאות מבחינה גיאומטרית.

(10) חשבו:

א.  $2\underline{u}$       ב.  $-0.5\underline{v}$       ג.  $3\underline{u} - 2\underline{v}$

(11) חשבו:

א.  $0.25\underline{v} - 0.5\underline{u}$       ב.  $\underline{v} - 0.5\underline{u} + 2\underline{w}$

(12)  $2\underline{v} - \underline{u} + 4\underline{w}$

(13)  $\underline{u} / |\underline{u}|$

(14)  $d(\underline{u}, \underline{v})$

(15)  $\underline{v} \cdot \underline{u} + 2\underline{w} \cdot \underline{v}$

(16)  $\text{proj}(\underline{u}, \underline{v})$

בשאלות 17-19 נתונות הנקודות  $A(1, -3, 0)$ ,  $B(4, 2, -1)$ ,  $C(3, -1, 2)$ ,  
 ויש למצוא את הווקטורים:

(17)  $\overline{AC} + \overline{AB}$

(18)  $2\overline{AC} - 4\overline{AB}$

(19)  $2\overline{AC} + \overline{AB} - \overline{BC}$

(20) נתונים ארבעת קדקודי המרובע ABCD:

$$A(-4, 2, 1), B(0, 2, -1), C(-3, -5, 0), D(-7, -5, 2)$$

הוכיחו כי המרובע הוא מקבילית.

**(21)** נתונים ארבעת קדקודי המרובע ABCD :  
 $A(1,2,0)$  ,  $B(-2,5,3)$  ,  $C(-1,8,4)$  ,  $D(4,3,-1)$

א. הוכיחו כי המרובע הוא טרפז.

ב. האם הטרפז שווה שוקיים?

**(22)** חשבו את הזווית שבין הווקטורים  $\underline{u}$  ו- $\underline{v}$  , כאשר :

א.  $\underline{u} = (-2, 2, 5)$  ,  $\underline{v} = (4, 0, 1)$

ב.  $\underline{u} = (6, -3, 1)$  ,  $\underline{v} = (2, 5, 3)$

ג.  $\underline{u} = (-2, 1, 3)$  ,  $\underline{v} = (4, -2, -6)$

## תשובות סופיות

$$\vec{P} = (4, 0, 7), \quad \vec{Q} = (-2, 1, 3), \quad \vec{R} = (6, 4, 0), \quad \vec{S} = (-2, 4, 0) \quad (1)$$

$$D = (6, -8, 1) \quad (2)$$

$$\underline{u} = (4, 11, 5) \quad (3)$$

$$M = (7, 1, 2) \quad (4)$$

$$N = (-1, -5, 10) \quad \text{ב.} \quad \vec{EF} = (5, -1, 0) \quad \text{א.} \quad (5)$$

$$\underline{u} = (0, -7, 6), \quad \underline{v} = (-4, 7, 6) \quad (6)$$

$$z = 6, \quad y = -2, \quad x = 5 \quad \text{א.} \quad (7)$$

$$\text{א. שאלת הוכחה.} \quad \text{ב. לא.} \quad (8)$$

$$D = (6, -8, 1) \quad (9)$$

$$\text{א.} \quad (-6, 2, 8) \quad \text{ב.} \quad (-2, 1, 3) \quad \text{ג.} \quad (-17, 7, 24) \quad (10)$$

$$\text{א.} \quad (2.5, -1, -3.5) \quad \text{ב.} \quad (9.5, 9.5, -18) \quad (11)$$

$$(19, 19, -36) \quad (12)$$

$$\left( \frac{-3}{\sqrt{20}}, \frac{1}{\sqrt{20}}, \frac{4}{\sqrt{20}} \right) \quad (13)$$

$$\sqrt{158} \quad (14)$$

$$14 \quad (15)$$

$$\underline{u}^* \quad (16)$$

$$(5, 7, 1) \quad (17)$$

$$(-8, -16, 8) \quad (18)$$

$$(8, 12, 0) \quad (19)$$

$$\text{שאלת הוכחה.} \quad (20)$$

$$\text{א. שאלת הוכחה.} \quad \text{ב. כן.} \quad (21)$$

$$\text{א.} \quad \alpha = 97.277^\circ \quad \text{ב.} \quad \alpha = 90^\circ \quad \text{ג.} \quad \alpha = 180^\circ \quad (22)$$

## מרחב וקטורי

### שאלות

בשאלות 1-7 בדקו האם  $W$  תת-מרחב של  $R^3$  :

$$W = \{(a, b, c) \mid a + b + c = 0\} \quad (1)$$

$$W = \{(a, b, c) \mid a = c\} \quad (2)$$

$$W = \{(a, b, c) \mid a = 3b\} \quad (3)$$

$$W = \{(a, b, c) \mid a < b < c\} \quad (4)$$

$$W = \{(a, b, c) \mid a = c^2\} \quad (5)$$

$$W = \{(a, b, c) \mid c - b = b - a\} \quad (6)$$

כלומר,  $a, b, c$  מהווים סדרה חשבונית.

$$W = \{(a, b, c) \mid b = a \cdot q, c = a \cdot q^2\} \quad (7)$$

כלומר,  $a, b, c$  מהווים סדרה הנדסית.

### תשובות סופיות

(1) כן

(2) כן

(3) כן

(4) לא

(5) לא

(6) כן

(7) לא

## צירופים לינאריים, פרישה לינארית ותלות לינארית

בשאלות 1-7 נתונים הווקטורים הבאים:

$$u_1 = (4, 1, 1, 5), \quad u_2 = (0, 11, -5, 3), \quad u_3 = (2, -5, 3, 1), \quad u_4 = (1, 3, -1, 2)$$

- (1) א. האם  $u_1$  הוא צירוף לינארי של  $u_4$ ?  
 ב. האם  $u_1$  שייך ל- $Sp\{u_4\}$ ?  
 ג. האם הקבוצה  $\{u_1, u_4\}$  תלויה לינארית?
- (2) א. האם  $u_3$  הוא צירוף לינארי של  $u_1$  ו- $u_2$ ?  
 ב. האם  $u_3$  שייך ל- $Sp\{u_1, u_2\}$ ?  
 ג. האם הקבוצה  $\{u_1, u_2, u_3\}$  תלויה לינארית?  
 במידה וכן, רשמו כל וקטור בקבוצה כצירוף לינארי של הווקטורים האחרים.
- (3) א. האם  $u_4$  הוא צירוף לינארי של  $u_1$  ו- $u_2$ ?  
 ב. האם  $u_4$  שייך ל- $Sp\{u_1, u_2\}$ ?  
 ג. האם הקבוצה  $\{u_1, u_2, u_4\}$  תלויה לינארית?  
 במידה וכן, רשמו כל וקטור בקבוצה כצירוף לינארי של הווקטורים האחרים.
- (4) נתון  $v = (4, 12, k, -2k)$ .  
 א. מה צריך להיות ערכו של  $k$ , על מנת שהווקטור  $v$  יהיה צירוף לינארי של  $u_1$  ו- $u_2$ ?  
 ב. מה צריך להיות ערכו של  $k$ , על מנת שהווקטור  $v$  יהיה שייך ל- $Sp\{u_1, u_2\}$ ?  
 ג. מה צריך להיות ערכו של  $k$ , על מנת שהקבוצה  $\{u_1, u_2, v\}$  תהיה תלויה לינארית?
- (5) נתון  $v = (a, b, c, d)$ .  
 א. מה התנאים על  $a, b, c, d$ , על מנת שהווקטור  $v$  יהיה צירוף לינארי של  $u_1$  ו- $u_2$ ?  
 ב. מה התנאים על  $a, b, c, d$ , על מנת שהווקטור  $v$  יהיה שייך ל- $Sp\{u_1, u_2\}$ ?  
 ג. מה התנאים על  $a, b, c, d$ , על מנת שהקבוצה  $\{u_1, u_2, v\}$  תהיה תלויה לינארית?

- (6) הביעו את הווקטור  $(10, 8, 0, 14)$  כצירוף לינארי של  $u_1, u_2$  ו- $u_3$ .  
 בכמה אופנים ניתן לעשות זאת?
- (7) הביעו את הווקטור  $(7, 10, -2, 11)$  כצירוף לינארי של  $u_1, u_2, u_3$  ו- $u_4$ .  
 בכמה אופנים ניתן לעשות זאת?
- (8) עבור איזה ערכים של  $a, b, c$ , הווקטורים הבאים תלויים לינארית:  
 $\{(c, 2, 4), (2, 4, a, 2), (c, b, 6), (b, 2, a)\}$

### תשובות סופיות

- (1) א. לא. ב. לא. ג. לא.
- (2) א. כן. ב. כן. ג. כן,  $u_2 = u_1 - 2u_3, u_1 = 2u_3 + u_2$ .
- (3) א. כן. ב. כן. ג. כן,  $u_2 = 4u_4 - u_1, u_1 = 4u_4 - u_2$ .
- (4) א-ג.  $k = -4$
- (5)  $a = 5t + 3s, b = 4t - 13s, c = 7s, d = 7t$
- (6) אינסוף.
- (7) אינסוף.
- (8) לכל ערך של  $a, b, c$ .

## בסיס ומימד, דרגה של מטריצה

### שאלות

- (1) בדקו אם הקבוצות הבאות הן בסיס ל- $R^3$  :
- א.  $\{(1,0,1), (0,0,1)\}$   
 ב.  $\{(1,1,2), (1,2,3), (3,3,4), (2,2,1)\}$   
 ג.  $\{(1,2,3), (4,5,6), (7,8,9)\}$
- (2) נתונה קבוצת וקטורים ב- $R^3$   $T = \{(1,2,3), (4,5,6), (7,8,9), (2,3,4)\}$
- א. האם  $T$  בסיס ל- $R^3$  ?  
 ב. מצאו קבוצה  $T'$ , שהיא קבוצה מקסימלית של וקטורים, בלתי תלויה ליניארית ב- $T$ .  
 ג. השלימו את  $T'$  לבסיס של  $R^3$ .

### מציאת בסיס וממד למרחב פתרונות של מערכת משוואות הומוגנית

- (3) להלן שלוש מערכות של משוואות הומוגניות :
- $$\begin{cases} x - y + z + w = 0 \\ 2x - 2y + 2z + 2w = 0 \end{cases} \quad .3 \quad \begin{cases} x - y + z + w = 0 \\ x + 2z - w = 0 \\ x + y + 3z - 3w = 0 \end{cases} \quad .2 \quad \begin{cases} x + y - z + 2w = 0 \\ 3x - y + 7z + 4w = 0 \\ -5x + 3y - 15z - 6w = 0 \end{cases} \quad .1$$
- נסמן ב- $W$  את המרחב הנפרש ע"י מערכת המשוואות 1.  
 נסמן ב- $U$  את המרחב הנפרש ע"י מערכת המשוואות 2.  
 נסמן ב- $V$  את המרחב הנפרש ע"י מערכת המשוואות 3.  
 מצאו בסיס וממד ל- $U$ ,  $W$  ו- $V$ .

- (4) נתון  $U = \{(a,b,c,d) \in R^4 \mid a=c, b=d\}$   
 מצאו בסיס וממד ל- $U$ .

- (5) נתון  $U = \{(a,b,c,d) \in R^4 \mid c=a+b, d=b+c\}$   
 מצאו בסיס וממד ל- $U$ .

- (6) נתון  $U = \{v \in R^4 \mid v \cdot (1,-1,1,-1) = 0\}$   
 מצאו בסיס וממד ל- $U$ .

### מציאת בסיס וממד לתת-מרחב

בשאלות 7 ו-8 נתונים שני תתי מרחבים של המרחב  $R^4$  :

$$U = \text{span}\{(1,1,-1,2), (3,-1,7,4), (-5,3,-15,-6)\}$$

$$V = \text{span}\{(1,-1,1,1), (1,0,2,-1), (1,1,3,-3), (5,1,5,8)\}$$

7 מצאו בסיס, ממד ומשוואות ל- $U$ .

8 מצאו בסיס, ממד ומשוואות ל- $V$ .

### מציאת בסיס וממד למרחב שורה ומרחב עמודה של מטריצה, דרגת מטריצה

בשאלות 9 ו-10 מצאו בסיס וממד למרחב השורה ומרחב העמודה של המטריצה, וציינו את דרגת המטריצה (rank) :

$$\begin{pmatrix} 4 & 1 & 1 & 5 \\ 0 & 11 & -5 & 3 \\ 2 & -5 & 3 & 1 \\ 1 & 3 & -1 & 2 \end{pmatrix} \quad (9)$$

$$\begin{pmatrix} 1 & 2 & 1 & 3 & 5 \\ 2 & 5 & 3 & 1 & 6 \\ 1 & -1 & -2 & 2 & 1 \\ -2 & 3 & 5 & -4 & -1 \end{pmatrix} \quad (10)$$

## תשובות סופיות

- (1) א. לא. ב. לא. ג. לא.
- (2) א. לא. ב.  $T' = \{(1,2,3), (4,5,6)\}$  ג.  $T' = \{(1,2,3), (4,5,6), (0,0,1)\}$
- (3)  $W$  - בסיס:  $\{(-1.5, 2.5, 1, 0), (-1.5, -0.5, 0, 1)\}$  ממד: 2.
- $U$  - בסיס:  $\{(-2, -1, 1, 0), (1, 2, 0, 1)\}$  ממד: 2.
- $V$  - בסיס:  $\{(-1, 0, 0, 1), (-1, 0, 1, 0), (1, 1, 0, 0)\}$  ממד: 3.
- (4) בסיס:  $\{(0, 1, 0, 1), (1, 0, 1, 0)\}$  ממד: 2.
- (5) בסיס:  $\{(-1, 1, 0, 1), (2, -1, 1, 0)\}$  ממד: 2.
- (6) בסיס:  $\{(1, 0, 0, 1), (-1, 0, 1, 0), (1, 1, 0, 0)\}$  ממד: 3.
- (7) בסיס:  $\{(1, 1, -1, 2), (0, -4, 10, -2)\}$  ממד: 2.
- (8) בסיס:  $\{(1, -1, 1, 1), (0, -1, 1, -2), (0, 0, -2, 5)\}$  ממד: 3.
- (9) מרחב שורה: בסיס:  $\{(4, 1, 1, 5), (0, 11, -5, 3)\}$  ממד: 2.
- מרחב עמודה: בסיס:  $\left\{ \begin{pmatrix} 4 \\ 0 \\ 2 \\ 1 \end{pmatrix}, \begin{pmatrix} 0 \\ 4 \\ -2 \\ 1 \end{pmatrix} \right\}$  ממד: 2, דרגה: 2.
- (10) מרחב שורה: בסיס:  $\{(1, 2, 1, 3, 5), (0, 11, -5, -4), (0, 0, 0, 1, 1)\}$  ממד: 3.
- מרחב עמודה: בסיס:  $\left\{ \begin{pmatrix} 1 \\ 2 \\ 1 \\ -2 \end{pmatrix}, \begin{pmatrix} 0 \\ 1 \\ -3 \\ 7 \end{pmatrix}, \begin{pmatrix} 0 \\ 0 \\ -16 \\ 37 \end{pmatrix} \right\}$  ממד: 3, דרגה: 3.

## חיתוך, סכום וסכום ישר של תת-מרחבים

### שאלות

1) להלן שלוש מערכות של משוואות לינאריות הומוגניות :

$$1) \begin{cases} x + y - z + 2w = 0 \\ 3x - y + 7z + 4w = 0 \\ -5x + 3y - 15z - 6w = 0 \end{cases} \quad 2) \begin{cases} x - y + z + w = 0 \\ x + 2z - w = 0 \\ x + y + 3z - 3w = 0 \end{cases} \quad 3) \begin{cases} x - y + z + w = 0 \\ 2x - 2y + 2z + 2w = 0 \end{cases}$$

נסמן ב-  $V, U, W$  את המרחבים הנפרשים ע"י פתרון המערכות 1, 2 ו-3 בהתאמה.

א. מצאו בסיס וממד ל-  $U, W$  ו-  $V$ .

ב. מצאו בסיס וממד ל-  $U+V$ .

ג. מצאו בסיס וממד ל-  $U \cap V$ .

בשאלות 2-7 נתונים שני תת-מרחבים של המרחב  $R^4$  :

$$U = \text{sp}\{(1, 1, -1, 2), (3, -1, 7, 4), (-5, 3, -15, -6)\}$$

$$V = \text{sp}\{(1, -1, 1, 1), (1, 0, 2, -1), (1, 1, 3, -3), (5, 1, 5, 8)\}$$

2) מצאו בסיס, ממד ומשוואות ל-  $U$ .

3) מצאו בסיס, ממד ומשוואות ל-  $V$ .

4) מצאו בסיס וממד ל-  $U+V$ .

5) מצאו בסיס וממד ל-  $U \cap V$  (פתור בשתי דרכים שונות).

6) האם  $U+V = R^4$  ?

7) האם  $U \oplus V = R^4$  ?

## תשובות סופיות

$$B_W = \{(-1.5, 2.5, 1, 0), (-1.5, -0.5, 0, 1)\} \quad , \quad \dim W = 2 \quad \text{א. (1)}$$

$$B_U = \{(-2, -1, 1, 0), (1, 2, 0, 1)\} \quad , \quad \dim U = 2$$

$$B_V = \{(-1, 0, 0, 1), (-1, 0, 1, 0), (1, 1, 0, 0)\} \quad , \quad \dim V = 3$$

$$B_{U+V} = \{(0, 0, -1, 1), (0, 1, 1, 0), (1, 1, 0, 0)\} \quad \dim(U + V) = 3 \quad \text{ב.}$$

$$B_{U \cap V} = \{(-2, -1, 1, 0), (1, 2, 0, 1)\} \quad , \quad \dim(U \cap V) = 2 \quad \text{ג.}$$

$$\begin{cases} -3x + 5y + 2z = 0 \\ -3x - y + 2t = 0 \end{cases} \quad , \quad B_U = \{(1, 1, -1, 2), (0, 2, -5, 1)\} \quad , \quad \dim U = 2 \quad \text{(2)}$$

$$-8x - y + 5z + 2t = 0 \quad , \quad B_V = \{(1, -1, 1, 1), (0, 1, 1, -2), (0, 0, 2, -5)\} \quad , \quad \dim V = 3 \quad \text{(3)}$$

$$B_{U+V} = \{(1, 1, -1, 2), (0, -4, 10, -2), (0, 0, 1, 0), (0, 0, 0, 1)\} \quad , \quad \dim(U + V) = 4 \quad \text{(4)}$$

$$B_{U \cap V} = \{(5, 1, 5, 8)\} \quad , \quad \dim(U \cap V) = 1 \quad \text{(5)}$$

$$\text{ד. (6)}$$

$$\text{ה. (7)}$$

## וקטור קואורדינטות ומטריצת מעבר מבסיס לבסיס

### שאלות

בשאלות 1-5 נתונים שני בסיסים של  $R^3$  :

$$B_1 = \{(1,1,0), (0,1,0), (0,1,1)\}, \quad B_2 = \{(1,0,1), (0,1,1), (0,0,1)\}$$

(1) מצאו את וקטור הקואורדינטות ביחס לבסיס  $B_1$ . סמנו וקטור זה ב-  $[v]_{B_1}$ .

(2) מצאו את וקטור הקואורדינטות ביחס לבסיס  $B_2$ . סמנו וקטור זה ב-  $[v]_{B_2}$ .

(3) מצאו מטריצת מעבר מהבסיס  $B_1$  לבסיס  $B_2$ . סמנו מטריצה זו ב-  $[M]_{B_1}^{B_2}$ .

(4) מצאו מטריצת מעבר מהבסיס  $B_2$  לבסיס  $B_1$ . סמנו מטריצה זו ב-  $[M]_{B_2}^{B_1}$ .

(5) אשרו את הטענות הבאות :

$$1. [M]_{B_2}^{B_1} \cdot [v]_{B_1} = [v]_{B_2}$$

$$2. [M]_{B_1}^{B_2} \cdot [v]_{B_2} = [v]_{B_1}$$

$$3. [M]_{B_1}^{B_2} = \left( [M]_{B_2}^{B_1} \right)^{-1}$$

### תשובות סופיות

$$(1) (x, y-x-z, z)$$

$$(2) (x, y, z-x-y)$$

$$(3) [M]_{B_1}^{B_2} = \begin{pmatrix} 1 & 0 & 0 \\ -2 & 0 & -1 \\ 1 & 1 & 1 \end{pmatrix}$$

$$(4) [M]_{B_2}^{B_1} = \begin{pmatrix} 1 & 0 & 0 \\ 1 & 1 & 1 \\ -2 & -1 & 0 \end{pmatrix}$$

(5) שאלת הוכחה.