

פיזיקה 2 חשמל ומגנטיות 20250

פרק 23 - דיפול חשמלי- רלוונטי לממן 16

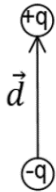
תוכן העניינים

1. הכל על דיפול.....1

הכל על דיפול:

רקע:

דיפול חשמלי הוא זוג מטענים בעלי מטען זהה וסימון הפוך הנמצאים במרחק d זה מזה.



מומנט הדיפול:

$$\vec{p} = q\vec{d}$$

כיוונו מהמטען השלילי לחיובי.

הפוטנציאל שיוצר דיפול במרחק גדול $r \gg d$:

$$\varphi = \frac{k(\vec{p} \cdot \vec{r})}{r^3} = \frac{k(\vec{p} \cdot \hat{r})}{r^2}$$

השדה של דיפול במרחק גדול:

$$\vec{E} = \frac{k[3(\vec{p} \cdot \hat{r})\hat{r} - \vec{p}]}{r^3}$$

מומנט דיפול של מערכת מטענים:

$$p_x = \sum x_i q_i = \int x dq$$

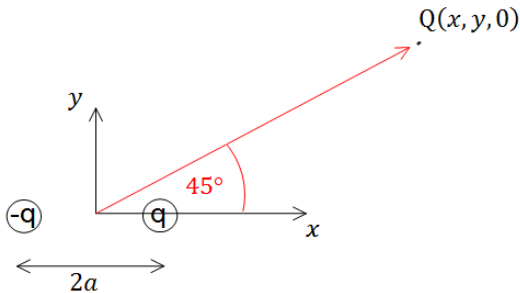
מומנט כוח הפועל על דיפול הנמצא בשדה חשמלי חיצוני:

$$\vec{\tau} = \vec{p} \times \vec{E}$$

שאלות:

(1) תרגיל ופיתוח הנוסחה של דיפול מהשדה

שני מטענים בעלי מטען q ו- $-q$ ממוקמים $x = a$ ו- $x = -a$.



א. חשב את הכוח הפועל על מטען

שלישי Q הנמצא בנקודה $(x, y, 0)$.

ב. הנח שמרחק המטען מהראשית

גדול בהרבה מהמרחק בין

המטענים והזווית של וקטור

מיקום המטען עם ציר ה- x הוא 45° .

השתמש בתשובה של סעיף א' ובקירובים

וחשב מה הכוח הפועל על המטען.

ג. חשב את וקטור מומנט הדיפול שיוצרים המטענים.

ד. חשב שוב את הכוח הפועל על המטען, הפעם השתמש בנוסחה של שדה של

דיפול והראה כי התשובה זהה לתשובה של סעיף ב'.

(2) דיפול בראשית מזיז אלקטרון

נתון דיפול $\vec{p} = (p, 0, 0)$ הנמצא בראשית.

א. מצא את הגודל p כך שאלקטרון הממוקם בנקודה $(a, 0, 0)$ עם

מהירות $(v, 0, 0)$ ייעצר בנקודה $(b, 0, 0)$.

ב. מצא את הגודל p כך שאלקטרון הממוקם בנקודה $(a, -\sqrt{2}a, 0)$ עם

מהירות $(0, 0, v)$ יבצע תנועה מעגלית.

(3) חישוב שגיאה

מטען q נמצא ב- $(0, 0, d)$ ומטען $-q$ נמצא ב- $(0, 0, -d)$.

א. חשב את הפוטנציאל המדויק בנקודה כלשהיא על

ציר z .

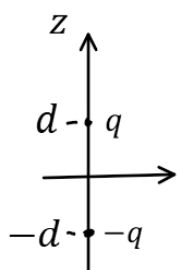
ב. מהו הערך המינימלי של z כך שהקירוב של

הפוטנציאל של דיפול לא יסטה יותר מאחוז אחד

מהפוטנציאל האמיתי?

ג. מהו הערך המינימלי של z כך שהקירוב של השדה

של דיפול לא יסטה יותר מאחוז אחד מהשדה האמיתי?



תשובות סופיות:

$$\vec{E} = kq \left[\left(\frac{x-a}{((x-a)^2 + y^2)^{\frac{3}{2}}} - \frac{x+a}{((x+a)^2 + y^2)^{\frac{3}{2}}} \right) \hat{x} + \left(\frac{y}{((x-a)^2 + y^2)^{\frac{3}{2}}} - \frac{y}{((x+a)^2 + y^2)^{\frac{3}{2}}} \right) \hat{y} \right] \quad \text{א. (1)}$$

ב. $\frac{kq}{r^3} (a\hat{x} + 3a\hat{y})$ ג. $q2a\hat{x}$ ד. שאלת הוכחה.

א. $\rho = \frac{mv^2}{2e^k} \left(\frac{a^2 b^2}{b^2 - a^2} \right)$ ב. $|e| \frac{K\sqrt{2}p}{3\sqrt{3}a^3}$ (2)

א. $\varphi(q) = \frac{kq2d}{z^2 - d^2}$ ב. $z_{\min} = 10d$ ג. $z_{\min} \approx 14.14d$ (3)