

# מתמטיקה למדעים

פרק 22 - גיאומטריה אנליטית - נקודה וישר

## תוכן העניינים

1. מושגי יסוד בגיאומטריה אנליטית..... 1
2. משוואת הישר..... 5
3. מצבים הדדיים בין ישרים..... 10
4. מציאת משוואות ישר..... 12
5. שאלות יסודיות שונות עם משוואת הישר..... 13
6. נושאים מתקדמים עם משוואת הישר..... (ללא ספר) 19
7. חלוקת קטע ביחס נתון..... 20
8. מרחק נקודה מישר..... 22
9. מיקום נקודה ביחס לישר..... 22
10. מרחק בין ישרים מקבילים..... 24

## מושגי יסוד בגיאומטריה אנליטית:

סיכום כללי:

נוסחאות כלליות:

- המרחק בין הנקודות  $A(x_1, y_1)$  ו-  $B(x_2, y_2)$  יחושב לפי:  $d = \sqrt{(x_2 - x_1)^2 + (y_2 - y_1)^2}$ .
- אמצע הקטע  $M$  שקצותיו הם:  $A(x_1, y_1)$  ו-  $B(x_2, y_2)$  הוא:  $x_M = \frac{x_1 + x_2}{2}$ ,  $y_M = \frac{y_1 + y_2}{2}$ .

שאלות:

שאלות העוסקות באמצע קטע:

- 1) מצא את אמצעי הקטעים שקדקודיהם נתונים ע"י הנקודות A ו-B:
- א.  $A(1, 4)$ ,  $B(5, -8)$       ב.  $A(-3, 0)$ ,  $B(3, -2)$
- ג.  $A(4, 5)$ ,  $B(-4, -5)$       ד.  $A\left(\frac{1}{2}, \frac{3}{4}\right)$ ,  $B\left(7\frac{1}{2}, -2\right)$
- ה.  $A(6, -1)$ ,  $B(-3, -1)$       ו.  $A(4, 7)$ ,  $B(4, -12)$
- 2) נתון קטע AB שאמצעו בנקודה M.
- מצא את שיעורי נקודת הקצה B אם נתונים שיעורי הנקודות של A ושל M:
- א.  $A(4, -2)$ ,  $M(2, 1)$       ב.  $A(-6, -8)$ ,  $M(0, 0)$
- ג.  $A(13, -11)$ ,  $M(4, -7)$       ד.  $A\left(\frac{1}{3}, -\frac{4}{3}\right)$ ,  $M\left(\frac{2}{3}, -\frac{1}{3}\right)$
- 3) נתון משולש שווה שוקיים ABC שבו A הוא קדקוד הראש.
- ידוע כי שיעורי הקדקודים B ו-C הם  $B(2, -4)$ ,  $C(6, 1)$ .
- מעבירים תיכון AD לבסיס BC. מצא את שיעורי הנקודה D.
- 4) באיור שלפניך C היא נקודת האמצע של AB, ו-D היא נקודת האמצע של AC.
- ידוע כי:  $A(-2, 1)$ ,  $B(6, 5)$ . מצא את שיעורי הנקודה D.



- (5) באיור שלפניך C היא נקודת האמצע של AB, ו-D היא נקודת האמצע של AC. ידוע כי:  $D(1, -2)$ ,  $C(-3, 4)$ . מצא את שיעורי הנקודות A ו-B.



- (6) הנקודות  $A(2, -7)$ ,  $B(-10, 4)$  ו- $C(6, 11)$  הן שלושה קדקודים של מקבילית ABCD. מצא את שיעורי הקדקוד הרביעי, D.

### שאלות העוסקות במרחק בין שתי נקודות:

- (7) מצא את המרחק בין זוגות הנקודות הבאות:
- א.  $A(4, 7)$ ,  $B(-3, 7)$       ב.  $A(6, 2)$ ,  $B(1, 2)$
- ג.  $A(-3, 10)$ ,  $B(0, 6)$       ד.  $A(6, -9)$ ,  $B(1, 3)$
- ה.  $A(4, 7)$ ,  $B(13, -1)$       ו.  $A(6, 6)$ ,  $B(-9, -9)$
- (8) חשב את היקף המשולש ABC שקודקודיו הם:  $A(3, -2)$ ,  $B(4, 9)$ ,  $C(0, 14)$ .

- (9) נתונות נקודות  $A(14, 4)$ ,  $B(6, y)$  שמרחקן הוא 10 יחידות אורך. מצא את  $y$ .

- (10) נתונות נקודות  $A(x, -12)$ ,  $B(15, -2)$  שמרחקן הוא 26 יחידות אורך. מצא את  $x$ .

- (11) נתונה נקודה B ברביע השלישי, ששיעור ה- $y$  שלה גדול פי 3 משיעור ה- $x$  שלה ומרחקה מהנקודה  $A(-4, 1)$  הוא 5. מצא את שיעורי הנקודה B.

- (12) במשולש שווה שוקיים ABC ( $AB = AC$ ) ידוע כי אורכי השוקיים הוא  $\sqrt{45}$  יחידות אורך. שיעורי הקדקוד A הם  $(0, 4)$  ושיעורי ה- $y$  של הקדקודים B ו-C הוא -2. מצא את קדקודי המשולש B ו-C (הנח B ברביע הרביעי).

- (13) אורך האלכסון AC במלבן ABCD הוא  $d_{AC} = \sqrt{50}$  וידוע כי:  $A(-3, -2)$ ,  $B(-4, 1)$ . מצא את היקף המלבן.

**שאלות העוסקות בשיפוע בין שתי נקודות:****14** מצא את השיפוע בין זוגות הנקודות הבאים:

- א.  $A(5,2)$  ,  $B(4,1)$       ב.  $A(3,-2)$  ,  $B(-3,1)$
- ג.  $A(7,8)$  ,  $B(6,15)$       ד.  $A(0,5)$  ,  $B(7,0)$
- ה.  $A(6,9)$  ,  $B(6,-7)$       ו.  $A(4,-1)$  ,  $B(18,-1)$

**15** מצא את שיפועי הישרים שצלעות המשולש שקודקודיוהם:  $A(6,5)$  ,  $B(2,13)$  ,  $C(4,-7)$  מונחים עליהם.

## תשובות סופיות:

- (1) א.  $(3, -2)$  ב.  $(0, -1)$  ג.  $(0, 0)$
- ד.  $\left(4, -\frac{5}{8}\right)$  ה.  $(1.5, -1)$  ו.  $(4, -2.5)$
- (2) א.  $B(0, 4)$  ב.  $B(6, 8)$  ג.  $B(-5, -3)$  ד.  $B\left(1, \frac{2}{3}\right)$
- (3)  $D(4, -1.5)$
- (4)  $D(0, 2)$
- (5)  $A(5, -8), B(-11, 16)$
- (6)  $D(18, 0)$
- (7) א.  $d_{AB} = 7$  ב.  $d_{AB} = 5$  ג.  $d_{AB} = 5$  ד.  $d_{AB} = 13$
- ה.  $d_{AB} = \sqrt{145}$  ו.  $d_{AB} = 15\sqrt{2}$
- (8)  $P_{ABC} \approx 33.862$  יחידות אורך
- (9)  $y = -2$  או  $y = 10$
- (10)  $x = 39$  או  $x = -9$
- (11)  $B(-1, -3)$
- (12)  $B(3, -2), C(-3, -2)$
- (13)  $P_{ABCD} = 6\sqrt{10} \approx 18.97$  יחידות אורך
- (14) א.  $m_{AB} = 1$  ב.  $m_{AB} = -\frac{1}{2}$  ג.  $m_{AB} = -7$  ד.  $m_{AB} = -\frac{5}{7}$
- ה. שיפוע לא מוגדר. ו.  $m_{AB} = 0$
- (15)  $m_{AB} = -2, m_{BC} = -10, m_{AC} = 6$

## משוואת הישר:

סיכום כללי:

נוסחאות כלליות:

- שיפוע ישר בין שתי נקודות  $A(x_1, y_1)$  ו-  $B(x_2, y_2)$  הוא:  $m_{AB} = \frac{y_2 - y_1}{x_2 - x_1} = \frac{y_1 - y_2}{x_1 - x_2}$ .

שיפועים של ישרים:

- שיפועי ישרים מאונכים מקיימים:  $m_1 \cdot m_2 = -1$ .
- הקשר בין שיפוע ישר לזווית שהוא יוצר עם הכיוון החיובי של ציר ה- $x$ :  $m = \tan \alpha$ .

משוואת הישר:

- משוואת ישר מפורשת היא מהצורה:  $y = mx + n$ .
- כאשר:  $m$  הוא שיפוע הישר ו- $n$  הוא ערך ה- $y$  של נקודת החיתוך של הישר עם ציר ה- $y$ .
- נוסחה למציאת משוואת ישר:  $y - y_1 = m(x - x_1)$ .

שאלות:

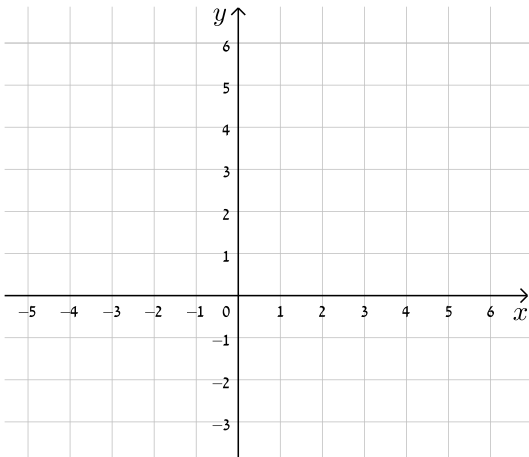
16) עבור כל אחד ממשוואות הישרים הבאות, מצא את נקודות החיתוך עם הצירים וסרטט את הישרים במערכת הצירים שלפניך.

ב.  $y = -x + 5$

א.  $y = x + 4$



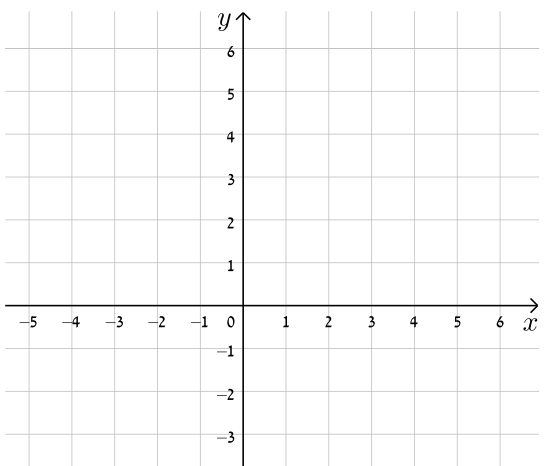
$$y = -3x + 5 \quad \text{ד.}$$



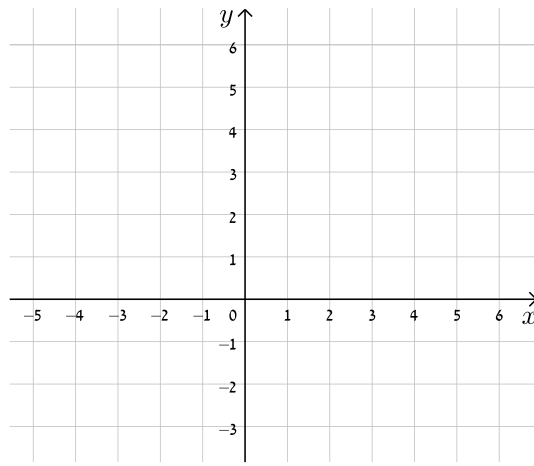
$$y = 2x - 3 \quad \text{ג.}$$



$$y = 8 - 4x \quad \text{ו.}$$

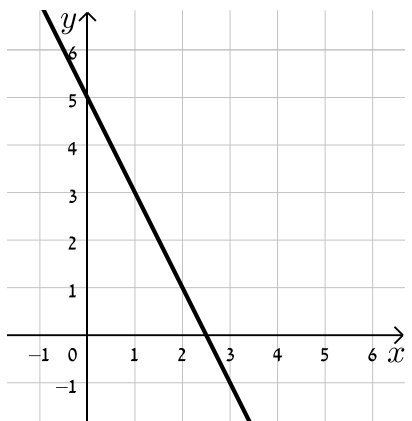


$$y = 3x - 1 \quad \text{ה.}$$

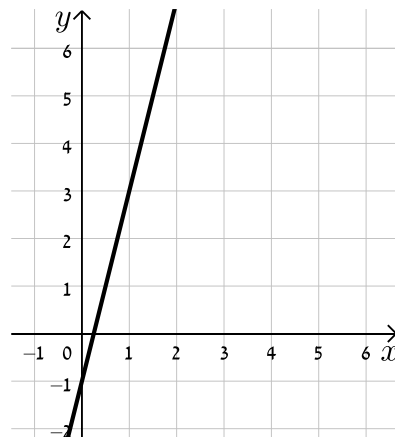


17) כתוב את משוואת הישר המתאימה לכל אחד מהישרים הבאים:

ב.



א.



ד.



ג.



18) התאם בין משוואות הישרים הבאים לישרים בשרטוט:



א.  $y = x + 3$

ב.  $y = -x - 1$

ג.  $y = 2x + 3$

ד.  $y = x - 1$

ה.  $y = \frac{1}{2}x$

19) נתונה משוואה הישר הבאה:  $y = 2x + 3$ . קבע אלו מבין הנקודות הבאות נמצאות

עליו:  $A(-1, 1)$ ,  $B(3, 3)$ ,  $C(0, 4)$ ,  $D(6, 15)$ .

20) נתונה משוואת הישר הבאה:  $y = mx - 2.5$ . ידוע כי הנקודה  $A(4, 2)$  נמצאת על

הישר. מצא את  $m$  וקבע האם גם הנקודה  $B(7, -2)$  נמצאת עליו.

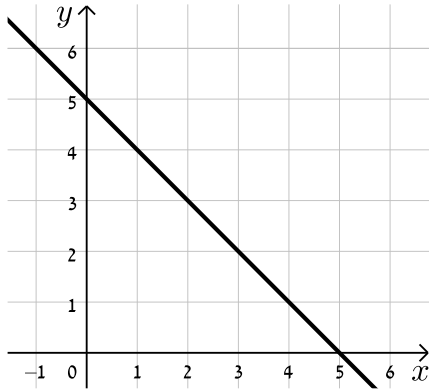
21) הנקודות  $A(5, -3)$ ,  $B(4, 1)$  נמצאות על ישר שמשוואתו היא:  $y = mx + n$ .

מצא את  $m$  ואת  $n$ .

**תשובות סופיות:**

16) להלן הגרפים של משוואות הישרים:

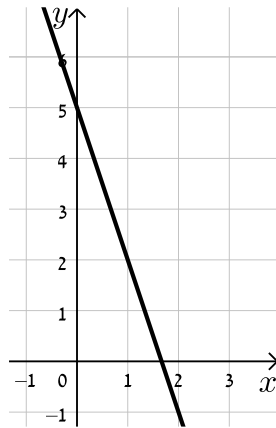
ב.



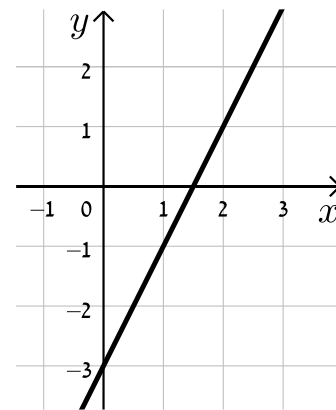
א.



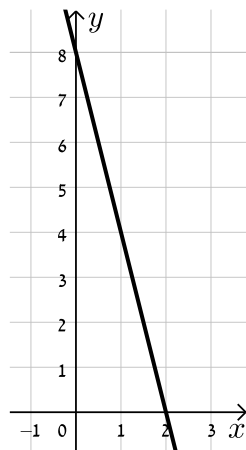
ד.



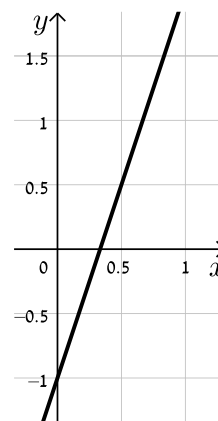
ג.



ו.



ה.



- (17) א.  $y = 4x - 1$    ב.  $y = -2x + 5$    ג.  $y = \frac{1}{2}x + 2$    ד.  $y = -\frac{1}{3}x - 1$
- (18) א. II.   ב. V.   ג. I.   ד. III.   ה. IV.
- (19) נמצאות : A, D. לא נמצאות : B, C.
- (20)  $m = \frac{9}{8}$ , B לא נמצאת.
- (21)  $m = -4$ ,  $n = 17$ .

## מצבים הדדיים בין ישרים:

### סיכום כללי:

#### מצב הדדי בין שני ישרים:

- ישרים מקבילים מקיימים:  $m_1 = m_2, n_1 \neq n_2$ .
- ישרים חותכים מקיימים:  $m_1 \neq m_2$ .
- ישרים מתלכדים מקיימים:  $m_1 = m_2, n_1 = n_2$ .

### שאלות:

22) מצא את נקודות החיתוך שבין זוגות הישרים הבאים:

$$\begin{cases} y = 2x - 4 \\ y = x + 6 \end{cases} \quad \text{ג.}$$

$$\begin{cases} y = x - 12 \\ y = 4x + 6 \end{cases} \quad \text{ב.}$$

$$\begin{cases} y = 3x + 4 \\ y = -2x - 1 \end{cases} \quad \text{א.}$$

23) קבע את המצב ההדדי בין זוגות הישרים הבאים:

$$\begin{cases} y = x - 7 \\ y = x + 6 \end{cases} \quad \text{ב.}$$

$$\begin{cases} y = 3x + 4 \\ y = 2x + 4 \end{cases} \quad \text{א.}$$

$$\begin{cases} y = x + 8 \\ y = x + 8 \end{cases} \quad \text{ד.}$$

$$\begin{cases} y = 6x - 15 \\ y = 3x + 41 \end{cases} \quad \text{ג.}$$

24) קבע אלו מבין זוגות הישרים הבאים הם מאונכים זה לזה:

$$\begin{cases} y = 2x \\ y = \frac{1}{2}x + 4 \end{cases} \quad \text{ב.}$$

$$\begin{cases} y = 3x + 1 \\ y = 3x - 1 \end{cases} \quad \text{א.}$$

$$\begin{cases} y = x - 6 \\ y = -x + 6 \end{cases} \quad \text{ד.}$$

$$\begin{cases} y = -4x - 5 \\ y = \frac{1}{4}x + 5 \end{cases} \quad \text{ג.}$$

- (25)** משוואת הצלע AB של המלבן ABCD היא  $y = 6x - 2$ .
- א. מה הם שיפועי הצלעות האחרות של המלבן?  
 ב. כיצד תשתנה תשובתך לסעיף הקודם אם משוואת הישר הנ"ל הייתה שייכת לצלע BC במקום AB?
- (26)** במשולש ABC נתונים שיעורי הקודקודים:  $A(5, -1)$ ,  $B(3, 7)$ ,  $C(-5, 5)$ .  
 הוכח שהמשולש ישר זווית ושווה שוקיים.

### תשובות סופיות:

- (22)** א.  $(-1, 1)$       ב.  $(-6, -18)$       ג.  $(10, 16)$
- (23)** א. נחתכים.      ב. מקבילים.      ג. נחתכים.      ד. מתלכדים.
- (24)** מאונכים: ג', ד'.      לא מאונכים: א', ב'.
- (25)** א.  $m_{AB} = m_{CD} = 6$ ,  $m_{BC} = m_{AD} = -\frac{1}{6}$
- ב. הכל הפוך:  $m_{BC} = m_{AD} = 6$ ,  $m_{AB} = m_{CD} = -\frac{1}{6}$
- (26)** שאלת הוכחה.

## מציאת משוואות ישר:

### שאלות:

27) מצא את משוואות הישרים הבאים:

- א. ישר העובר דרך הנקודה  $A(1,3)$  ושיפועו  $m=2$ .
- ב. ישר העובר דרך הנקודה  $A(0,-4)$  ושיפועו  $m=\frac{1}{3}$ .
- ג. ישר העובר דרך הנקודה  $A(5,9)$  ושיפועו  $m=0$ .
- ד. ישר העובר דרך הנקודות  $A(5,-12)$  ו- $B(6,-6)$ .
- ה. ישר העובר דרך הנקודה  $A(-6,4)$  ומקביל לישר:  $y=2x-3$ .
- ו. ישר העובר דרך הנקודה  $A(3,-5)$  ומקביל לציר ה- $y$ .
- ז. ישר העובר דרך הנקודה  $A(-7,-3)$  ומאונך לישר:  $y=x+3$ .
- ח. ישר העובר דרך נקודת החיתוך של הישרים:  $y=11x-4$  ו- $y=3x-12$  ומקביל לישר:  $y=7x+5$ .

### תשובות סופיות:

- 27) א.  $y=2x+1$       ב.  $y=\frac{1}{3}x-4$       ג.  $y=9$       ד.  $y=6x-42$
- ה.  $y=2x+16$       ו.  $x=3$       ז.  $y=-x-10$       ח.  $y=7x-8$

## שאלות יסודיות שונות עם משוואת הישר:

### שאלות:

**(28)** במשולש ABC מעבירים את התיכון AD לצלע BC.

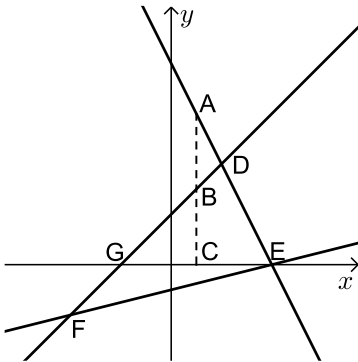
ידוע כי:  $A(3, -2)$ ,  $B(2, 4)$ ,  $D(-2, 2)$ .

- כתוב את משוואת הישר של התיכון AD.
- מצא את שיעורי הקדקוד C.
- כתוב את משוואת הישר של הצלע AC.

**(29)** נתון מעוין ABCD שבו נתונים הקודקודים A(-9,1) ו-B(5,-7).

משוואת הישר עליו מונח האלכסון AC היא  $x + 3y + 6 = 0$ .

- מצא את משוואת הישר עליו מונח האלכסון BD.
- מצא את משוואת הישר עליו מונחת הצלע BC.



**(30)** שלוש המשוואות הבאות מייצגות את הישרים המופיעים

בשרטוט:  $x - y + 2 = 0$ ,  $x - 4y - 4 = 0$ ,  $2x + y - 8 = 0$ .

הקטע AC מקביל לציר ה-y.

א. חשב את שטח המשולש DEF.

ב. נתון:  $d_{BC} = 3$ .

חשב את אורך הקטע AB.

**(31)** BD הוא התיכון לצלע AC במשולש ABC שבו נתון הקודקוד A(-6,1).

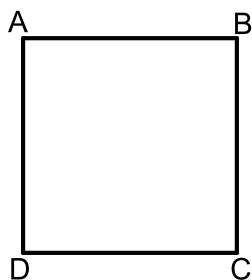
משוואת התיכון BD היא  $x - y = 1$  ומשוואת הצלע BC היא  $3x + 5y = 67$ .

מצא את שיעורי הקדקוד C.

**(32)** נתון טרפז ABCD ( $AB \parallel CD$ ) ובו משוואת השוק BC היא:  $x = 2$ .

משוואת הבסיס CD היא  $2x + 3y = 7$  וידוע כי  $A(-4, 1)$ .

- מצא את משוואת הבסיס AB.
- מצא את שיעורי הקדקודים B ו-C.
- מעבירים את האלכסון AC. הראה כי המשולש ABC הוא ישר זווית ומצא את שטחו.



33 במרובע ABCD ידוע כי שיפוע הצלע BC הוא 3

ושיעורי הנקודה A הם: (1,4).

א. איזה מרובע הוא המרובע ABCD?  
הראה חישוב מתאים.

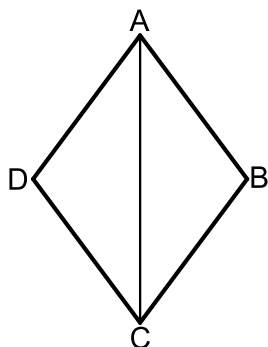
ב. נתון גם:  $D(4,13)$ ,  $m_{CD} = -\frac{1}{3}$  ו- $\sqrt{90}$  ס"מ  $BC =$ .

איזה מרובע הוא המרובע ABCD כעת?  
הראה חישוב מתאים.

ג. נתון גם:  $B(-8,7)$ .

איזה מרובע הוא המרובע ABCD כעת?  
הראה חישוב מתאים.

ד. חשב את שטח המרובע ABCD.



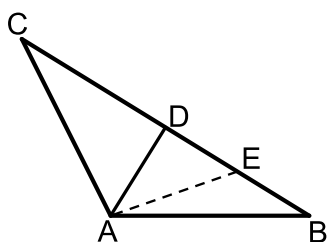
34 המרובע ABCD הוא מעוין.

ידוע כי שיעורי אחת הנקודות במעוין הם: (0,6).

כמו כן, ידוע גם כי משוואת האלכסון AC היא:  $y = -1.5x + 6$  ואחת ממשוואות הצלעות היא:  $5y + x = 4$ .

א. מצא את משוואת האלכסון השני.

ב. מצא את שאר קדקודי המעוין.



35 המשולש ABC הוא משולש שווה שוקיים ( $AB = AC$ ).

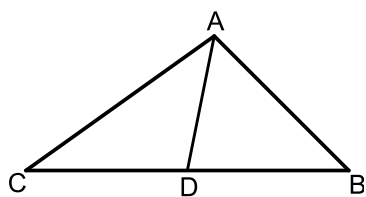
ב- $\triangle ABC$  מעבירים את הגובה AD לבסיס BC

ומסמנים נקודה E כך שמתקיים:  $DE = BE$ .  
קדקוד הראש A נמצא בראשית הצירים ונתון

כי:  $D(5,7)$ ,  $E(8.5,2.5)$ .

א. מצא את שיעורי שאר קודקודי המשולש.

ב. כתוב את משוואת השוק AC.



36 נתון משולש ABC. הנקודה D נמצאת על הצלע BC

של המשולש ABC כך שהקטע AD מחלק אותו

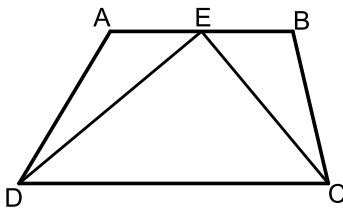
לשני משולשים שווי שטח ABD ו-ACD.

הצלע BC מונחת על הישר:  $y = 4$  וידוע כי

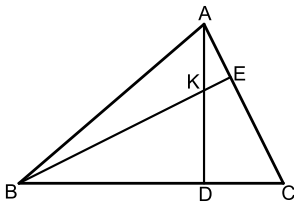
שיעור ה-x של הנקודה C הוא:  $x_C = -1$ .

כמו כן נתון:  $A(7,8)$ ,  $m_{AB} = -2$ .

- א. מצא את משוואת הצלע AB.  
 ב. ענה על הסעיפים הבאים:  
 i. איזה קטע הוא AD בתוך המשולש ABC?  
 ii. מצא את שיעורי הנקודות B ו-D.  
 ג. ענה על הסעיפים הבאים:  
 i. חשב את אורך הצלע BC ואת אורך הקטע AD.  
 ii. איזה משולש הוא המשולש ABC?



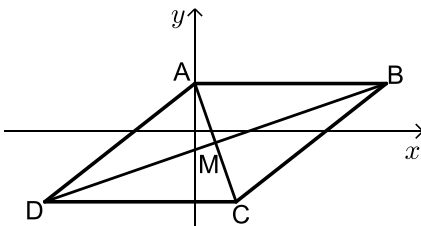
- 37** המרובע ABCD הוא טרפז. הנקודה E היא אמצע הבסיס AB וידוע כי היא נמצאת על ציר ה-x. שיעורי הנקודה B הם (3, 2) והצלע AD מונחת על הישר:  $x = -5$ . אורך הקטע DE הוא  $\sqrt{80}$ . כך ש- $\angle DEC = 90^\circ$ .  
 א. מצא את שיעורי הנקודות A ו-D.  
 ב. מצא את משוואת הקטע CE ואת משוואת הבסיס CD.  
 ג. מצא את שיעורי הנקודה C.  
 ד. חשב את שטח המשולש DEC.



- 38** AD ו-BE הם בהתאמה גבהים לצלעות BC ו-AC במשולש ABC. ידוע כי שיעורי נקודת פגישת הגבהים K הם: (1, 3). שיעורי הנקודות D ו-E הם:  $D(-2, 4)$ ,  $E(3, 5)$ .  
 א. מצא את משוואת הגובה AD ואת משוואת הצלע AC.  
 ב. מצא את שיעורי הקדקוד A.  
 ג. מצא את משוואת הגובה BE ואת משוואת הצלע BC.  
 ד. מצא את שיעורי הקדקוד B.

- 39** נתון מעוין ABCD. ידוע כי הצלע CD מונחת על  $y = -7$ . אלכסוני המעוין AC ו-BD נפגשים

בנקודה:  $M(-0.5, -3)$ . שיפוע האלכסון AC הוא -4.



- א. מצא את משוואת האלכסון AC.  
 ב. מצא את שיעורי הנקודה C.  
 ג. חשב את שטח המשולש BMC.

40 נתון מרובע ABCD שקודקודיו הם:  $A(3,13)$ ,  $B(-2,4)$ ,  $C(9,3)$ ,  $D(8,14)$ .



מורידים גבהים AE ו-CF לאלכסון BD.

- מצא את משוואת האלכסון BD ואת אורכו.
- מצא את שיעורי הנקודות E ו-F.
- מצא את אורכי הגבהים AE ו-CF.
- חשב את שטח המרובע ABCD.



41 על הישר  $y = -5$  מסמנים את

הנקודות:  $A(-7, -5)$ ,  $B(2, -5)$ .

הנקודה C נמצאת על הישר:  $y = x - 5$ .

נסמן את שיעור ה-x של הנקודה C ב-t.

א. הבע באמצעות t את שיעור ה-y של הנקודה C.

ב. ידוע כי אורך הצלע AC הוא 17 ס"מ.

הבע באמצעות t את המרחקים של C מ-A ומ-B.

ג. מצא את t ואת אורך הצלע BC.

ד. מסמנים נקודה D על המשך הצלע AB.

ידוע כי D נמצאת ברביע השלישי.

מצא את שיעורי הנקודה D המקיימת ששטח

המשולש DAC יהיה גדול ב-16 יחידות משטח המשולש ABC.

42 המשולש ABC הוא שווה שוקיים ( $AB = BC$ )

ובו נתון:  $A(-4, 12)$ ,  $B(x, 6)$  ו-  $C(4, 8)$ .

א. מצא את x.

ב. הוכח כי המשולש הוא ישר זווית.

ג. ענה על הסעיפים הבאים:

i. מצא את משוואת הצלע AC.

ii. מסמנים את נקודת החיתוך של הצלע AC עם ציר ה-y ב-D.

מצא את שיעורי הנקודה D.

ד. ענה על הסעיפים הבאים:

i. מצא נקודה E ברביע הראשון ( $x_E < 5$ ) כך שהמשולש DCE יהיה גם

שווה שוקיים וישר זווית ( $\sphericalangle C = 90^\circ$ ).

ii. חשב את יחס השטחים בין המשולשים:  $\frac{S_{DCE}}{S_{ABC}}$ .



43 באיור שלפניך נתונה מקבילית ABCD.

ידועים קודקודי המקבילית הבאים:  $A(-1, y)$

ו-  $B(x, 4)$ .  $x$  ו-  $y$  נעלמים).

שיפוע הצלע CD הוא 0.2 ואורכה הוא:  $d_{CD} = \sqrt{104}$ .

א. מצא את  $x$  ו-  $y$  אם ידוע כי B ברביע הראשון.

ב. נתון גם כי הקדקוד C נמצא על ציר ה- $x$  בחלקו החיובי

וכי:  $d_{BC} = \sqrt{17}$ . מצא את שיעורי הקדקוד C (מצא שתי אפשרויות).

ג. סמן את נקודת החיתוך של הצלע AB עם ציר ה- $y$  ב-E.

שטח המרובע EOCB הוא 25.9 יח"ש. מצא את האפשרות הנכונה עבור

הנקודה C מבין אלו שמצאת בסעיף הקודם.

## תשובות סופיות:

$$(28) \quad \text{א. } y = -\frac{4}{5}x + \frac{2}{5} \quad \text{ב. } C(-6, 0) \quad \text{ג. } y = -\frac{2}{9}x - \frac{4}{3}$$

$$(29) \quad \text{א. } l_{BD}: y = 3x - 22 \quad \text{ב. } l_{BC}: y = -\frac{1}{8}x - 6\frac{3}{8}$$

$$(30) \quad \text{א. } 18 \text{ יח"ש} = S_{EDF} \quad \text{ב. } 3 \text{ יחידות אורך} = AB$$

$$(31) \quad C(14, 5)$$

$$(32) \quad \text{א. } y = -\frac{2}{3}x - \frac{5}{3} \quad \text{ב. } B(2, -3), C(2, 1) \quad \text{ג. } 12 \text{ יחידות שטח} = S_{ABC}$$

(33) א. מרובע כללי כלשהו. לא ניתן להצביע על אף תכונה.

ב. מלבן. ניתן להראות כי יש למרובע שני זוגות צלעות נגדיות מקבילות ושוות וזווית ישרה.

ג. ריבוע. ניתן להראות כי קיימות זוג צלעות סמוכות שוות. ד.  $90$  יח"ש =  $S$ .

$$(34) \quad \text{א. } y = \frac{2}{3}x + 1\frac{2}{3} \quad \text{ב. } (-1, 1), (4, 0), (5, 5)$$

$$(35) \quad \text{א. } B(12, -2), C(-2, 16) \quad \text{ב. } y = -8x$$

$$(36) \quad \text{א. } y = -2x + 22 \quad \text{ב. i. תיכון - קטע במשולש שחוצה אותו לשני משולשים שווי}$$

$$\text{שטח הוא תיכון. ב. ii. } B(9, 4), D(4, 4)$$

ג. ii.  $AD = 5, BC = 10$ . ג. ii. משולש ישר זווית - אם במשולש יש תיכון לצלע ששווה

למחציתה אז המשולש הוא ישר זווית.

$$(37) \quad \text{א. } D(-5, -8), A(-5, -2), E(-1, 0) \quad \text{ב. } CE: y = -\frac{1}{2}x - \frac{1}{2}, CD: y = \frac{1}{2}x - 5\frac{1}{2}$$

$$\text{ג. } C(5, -3) \quad \text{ד. } 30 \text{ יח"ש} = S_{DEC}$$

$$(38) \quad \text{א. } AC: y = -x + 8, AD: y = -\frac{1}{3}x + 3\frac{1}{3} \quad \text{ב. } A(7, 1)$$

$$\text{ג. } BC: y = 3x + 10, BE: y = x + 2 \quad \text{ד. } B(-4, -2)$$

$$(39) \quad \text{א. } y = -4x - 5 \quad \text{ב. } C(0.5, -7) \quad \text{ג. } 34 \text{ סמ"ר} = S_{BMC} = S_{DMC}$$

$$(40) \quad \text{א. } d_{BD} = \sqrt{200}, y = x + 6 \quad \text{ב. } E(5, 11), F(3, 9)$$

$$\text{ג. } d_{CF} = \sqrt{72}, d_{AE} = \sqrt{8} \quad \text{ד. } S_{ABCD} = 80$$

$$(41) \quad \text{א. } C(t, t-5) \quad \text{ב. i. } AC = \sqrt{2t^2 + 14t + 49}, BC = \sqrt{2t^2 - 4t + 4}$$

$$\text{ii. } 10 \text{ ס"מ} = BC, t = 8 \quad \text{ג. } D(-20, -5)$$

$$(42) \quad \text{א. } x = -2 \quad \text{ג. i. } y = -0.5x + 10 \quad \text{ii. } D(0, 10) \quad \text{ד. i. } E(2, 4)$$

$$\text{ii. } \frac{S_{DCE}}{S_{ABC}} = \frac{1}{2}$$

$$(43) \quad \text{א. } x = 9, y = 2 \quad \text{ב. } C(8, 0), C(10, 0) \quad \text{ג. } C(8, 0)$$

## חלוקת קטע ביחס נתון:

### סיכום כללי:

- שיעורי נקודה P המחלקת קטע שקצותיו  $A(x_1, y_1)$  ו-  $B(x_2, y_2)$  ביחס של  $k:l$  הם:  $x_p = \frac{k \cdot x_1 + l \cdot x_2}{k+l}, y_p = \frac{k \cdot y_1 + l \cdot y_2}{k+l}$  (בהצלבה).

### שאלות:

- (1) הנקודה P נמצאת על הקטע AB. נתון:  $A(2, -5), B(-12, 16)$ .

$$\frac{AP}{PB} = \frac{2}{5} \text{ . מצא את ערכי הנקודה P, אם נתון כי}$$

- (2) קודקודי משולש ABC הם:  $A(-1, 3), B(6, 0), C(4, -12)$ .

מצא את שיעורי מרכז הכובד של המשולש.  
(מרכז כובד של משולש הוא מפגש תיכוני המשולש).

- (3) מצא את שיעורי מרכז הכובד של משולש ABC

שקודקודיו הם:  $A(x_1, y_1), B(x_2, y_2), C(x_3, y_3)$ .

- (4) קודקודי המשולש ABC הם:  $A(5, 1), B(7, -3), C(-1, 4)$ .

מצא את אורכו של חוצה הזווית היוצא מקודקוד A.

### תשובות סופיות:

$$M(3, -3) \quad (2) \qquad P(-2, 1) \quad (1)$$

$$1.697 \text{ יחידות אורך.} \quad (4) \qquad \left( \frac{x_1 + x_2 + x_3}{3}, \frac{y_1 + y_2 + y_3}{3} \right) \quad (3)$$

## מרחק נקודה מישר:

### סיכום כללי:

#### הצגה כללית של ישר ומרחקים:

- הצגה כללית של ישר (צורה סתומה):  $Ax + By + C = 0$ .
- מרחק הנקודה  $A(x_1, y_1)$  מהישר  $Ax + By + C = 0$  הוא:  $d = \left| \frac{Ax_1 + By_1 + C}{\sqrt{A^2 + B^2}} \right|$  כאשר  $B > 0$ .

- אם הנקודה מעל הישר מורידים את הערך המוחלט.
- אם הנקודה מתחת לישר מורידים את הערך המוחלט ומוסיפים מינוס לאחד האגפים.

### שאלות:

(5) ענה על הסעיפים הבאים:

- מצא את מרחק הנקודה  $(-2, 4)$  מהישר  $4x + 3y + 11 = 0$ .
- מצא את מרחק הנקודה  $(4, 3)$  מהישר  $y = 3x - 1$ .
- מצא את מרחק הנקודה  $(3, -11)$  מהישר  $x - 5 = 0$ .

(6) מצא את המרחק בין הנקודה הנתונה לישר הנתון:

- $3x - 4y + 6 = 0$ ,  $A(-5, -1)$     ב.  $12x + 5y - 17 = 0$ ,  $A(-3, 8)$
- $2y + 7 = 0$ ,  $A(11, -2)$     ד.  $3x - 14 = 0$ ,  $A\left(6, -\frac{1}{2}\right)$

(7) מצא את שיעורי הנקודות על הישר  $x + y - 7 = 0$  שמרחקן מהישר  $2x - y + 5 = 0$  הוא:  $\sqrt{20}$ .

(8) מצא את שטחה של מקבילית ששיעורי קודקודיה

הם:  $A(7, -1)$ ,  $B(-5, 4)$ ,  $C(-1, 7)$ ,  $D(11, 2)$ .

- (9) מצא את שטחו של המשולש  $\Delta ABC$  שבו שיעורי קדקוד  $A$  הם  $A(5, -3)$  ושניים מתיכוני המשולש מונחים על הישרים  $x - 4 = 0$  ו-  $2x - y - 1 = 0$ .
- (10) מצא את שטחו של משולש שקודקודיו הם:  $A(2, 2)$ ,  $B(-1, 1)$ ,  $C(-5, -2)$ .
- (11) מצא את שיעורי הנקודות על הישר  $3x - 2y + 6 = 0$ , שמרחקן מהישר:  $2x - y - 14 = 0$  הוא  $3\sqrt{5}$ .
- (12) מצא את שיעורי הנקודות על הישר  $4x + 3y - 20 = 0$ , שמרחקן מהישר:  $3x + 2y + 13 = 0$  הוא  $2\sqrt{13}$ .

### תשובות סופיות:

- (5) א. 3 ב.  $\frac{8}{\sqrt{10}}$  ג. 2
- (6) א. 1 ב. 1 ג.  $1\frac{1}{2}$  ד.  $\frac{1}{3}$
- (7)  $(4, 3)$ ,  $\left(-2\frac{2}{3}, 9\frac{2}{3}\right)$
- (8)  $S_{ABCD} = 56$  יח"ש
- (9)  $S_{ABC} = 18$  יח"ש
- (10)  $S_{ABC} = 2.5$  יח"ש
- (11)  $(4, 9)$ ,  $(64, 99)$
- (12)  $(-1, 8)$ ,  $(-157, 216)$

## מיקום נקודה ביחס לישר:

### שאלות:

- 13** מצא את שיעורי הנקודה על הישר  $3x - 2y + 6 = 0$ , שמרחקה מהישר:  $2x - y - 14 = 0$  הוא  $3\sqrt{5}$  והיא נמצאת מתחתיו.
- 14** מצא את שיעורי הנקודה על הישר  $4x + 3y - 20 = 0$ , שמרחקה מהישר:  $3x + 2y + 13 = 0$  הוא  $2\sqrt{13}$  והיא נמצאת מעליו.
- 15** נתון משולש ABC שבו נתונים הקודקודים:  $A(1,1)$ ,  $B(13,6)$ . הקדקוד C נמצא על הישר  $2x - y - 19 = 0$  ונמצא מתחת לצלע AB. מצא את שיעורי הקדקוד C אם ידוע ששטח המשולש הוא 13.
- 16** נתון משולש שצלעותיו מונחות על הישרים:  
 $I: x + 2y + 1 = 0$ ,  $II: x - 2y - 11 = 0$ ,  $III: 2x - y + 6 = 0$   
 מצא שיעורי נקודה הנמצאת בתוך המשולש, שמרחקה מישר I שווה למרחקה מישר III ומרחקה מישר II הוא מחצית מהמרחק משני ישרים אלה.
- 17** מצא את שיעורי מרכז המעגל, החסום במשולש, שצלעותיו מונחות על הישרים:  $I: 4x - 3y + 2 = 0$ ,  $II: 3x - 4y - 51 = 0$ ,  $III: 3x + 4y - 11 = 0$ .
- 18** מצא משוואת ישר ששיפועו 3 אם ידוע שהנקודה  $G(7, -3)$  נמצאת מתחתיו ובמרחק  $2\sqrt{10}$  ממנו.
- 19** מצא משוואת ישר שעובר בנקודה  $A(-2, 6)$  ומרחקו מהנקודה  $B(2, 9)$  הוא  $\sqrt{5}$ .
- 20** מצא משוואת ישר שעובר בנקודה  $A(9, 10)$  ומרחקו מהנקודה  $B(8, -3)$  הוא  $5\sqrt{5}$ .
- 21** מצא משוואת ישר שעובר בנקודה  $A(3, 6)$  ומרחקו מהנקודה  $B(-9, 2)$  הוא 4.

**(22)** מצא משוואת ישר שעובר בנקודה  $A(1,2)$  ומרחקו מהנקודה  $B(-3,10)$  הוא 4.

**(23)** מצא משוואת ישר שעובר בנקודה  $A(10,8)$  ומרחקו מהנקודה  $B(7,-1)$  הוא 3.

**(24)** מצא משוואת ישר שעובר בנקודה  $A(-6,1)$  ומרחקו מהנקודה  $B(2,7)$  הוא 10.

### תשובות סופיות:

$$(-1,8) \quad \mathbf{(14)}$$

$$(-1,-4) \quad \mathbf{(16)}$$

$$y = 3x - 4 \quad \mathbf{(18)}$$

$$y = -\frac{22}{31}x + 16\frac{12}{31}, \quad y = \frac{1}{2}x + 5\frac{1}{2} \quad \mathbf{(20)}$$

$$x = 1 \text{ או } y = -\frac{3}{4}x + 2\frac{3}{4} \quad \mathbf{(22)}$$

$$y = -\frac{4}{3}x - 7 \quad \mathbf{(24)}$$

$$(64,99) \quad \mathbf{(13)}$$

$$C(11,3) \quad \mathbf{(15)}$$

$$(2,-5) \quad \mathbf{(17)}$$

$$y = 2x + 10, \quad y = \frac{2}{11}x + 6\frac{4}{11} \quad \mathbf{(19)}$$

$$y = \frac{3}{4}x + 3\frac{3}{4}, \quad y = 6 \quad \mathbf{(21)}$$

$$x = 10 \text{ או } y = 1\frac{1}{3}x - 5\frac{1}{3} \quad \mathbf{(23)}$$

## מרחק בין ישרים מקבילים:

### סיכום כללי:

- מרחק בין שני ישרים מקבילים:  $Ax + By + C_1 = 0$  ו-  $Ax + By + C_2 = 0$  כאשר:  $B > 0$

$$\text{הוא: } d = \frac{|C_1 - C_2|}{\sqrt{A^2 + B^2}} \text{ ומתקיים בהעדר הערך המוחלט:}$$

- אם:  $C_1 > C_2$ ,  $(d > 0)$  אז הישר  $Ax + By + C_1 = 0$  מתחת ל-  $Ax + By + C_2 = 0$ .
- אם:  $C_1 < C_2$ ,  $(d < 0)$  אז הישר  $Ax + By + C_1 = 0$  מעל ל-  $Ax + By + C_2 = 0$ .

### שאלות:

(25) מצא משוואת ישר, המקביל לישר  $3x - 4y + 8 = 0$  ונמצא במרחק 4 ממנו.

(26) מצא את המרחק בין הישרים המקבילים:  $5x + 12y - 14 = 0$ ,  $5x + 12y + 25 = 0$ .

(27) נתונים הישרים:  $y = 6x + 5$ ,  $12x - 2y - 15 = 0$ .  
הראה שהישרים מקבילים ומצא את המרחק ביניהם.

(28) נתון המלבן ABCD. משוואותיהן של שתיים מצלעות המלבן הן  $AB: 3x + y = 0$  ו-  $CD: 3x + y - 6 = 0$ . הקדקוד B נמצא בראשית הצירים. נתון כי הצלע BC ארוכה פי 4 מהצלע BC. מצא את שטח המלבן ואת מפגש אלכסוני המלבן, אם ידוע שהוא ברביע הרביעי.

(29) צלע של ריבוע מונחת על הישר  $3x - 2y + 5 = 0$ . אלכסוני הריבוע נפגשים בנקודה  $B(1, -1)$ . מצא את משוואות הישרים עליהם מונחות הצלעות האחרות של הריבוע.

(30) נתון ישר שעובר בראשית הצירים ושיפועו חיובי. מצא את משוואת הישר אם נתון שהוא נמצא מעל הנקודות  $P(4, 1)$  ו-  $Q(7, 2)$  וסכום המרחקים ממנו לנקודות אלה הוא  $3\sqrt{10}$ .

**(31)** במשולש BKP נתון כי הצלע BK מונחת על הישר  $x - y + 3 = 0$  והצלע BP מונחת על הישר  $x + 2y + 3 = 0$ . אורך הגובה לצלע BP הוא  $3\sqrt{5}$  ואורך הגובה לצלע KP הוא 5. מצא את שיעורי קדקוד P אם ידוע שראשית הצירים נמצאת בתוך המשולש.

### תשובות סופיות:

$$3 \quad (26) \quad 3x - 4y + 28 = 0, 3x - 4y - 12 = 0 \quad (25)$$

$$(2.1, -3.3), S = \text{יח"ש} \quad 14.4 \quad (28) \quad \frac{25}{\sqrt{148}} \quad (27)$$

$$3x - 2y - 15 = 0, y = -\frac{2}{3}x - 3\frac{2}{3}, y = -\frac{2}{3}x + 3 \quad (29)$$

$$P\left(2, -2\frac{1}{2}\right) \quad (31) \quad y = 3x \quad (30)$$