

קורס הכנה למכינה בהנדסה

פרק 19 - גיאומטריה אנליטית - האליפסה והפרבולה

תוכן העניינים

1	1. האליפסה
5	2. הפרבולה

האליפסה:

סיכום כללי:

הגדרה:

המקום הגאומטרי של כל הנקודות, שסכום מרחקיהן משתי נקודות קבועות במישור קבוע, נקרא אליפסה. הנקודות הקבועות נקראות מוקדי האליפסה.



מושגים באליפסה:

- הציר הגדול: הקטע שהאליפסה חותכת מציר ה- x .
- הציר הקטן: הקטע שהאליפסה חותכת מציר ה- y .
- מרכז האליפסה: מפגש צירי האליפסה (ראה איור).
באליפסה קנונית מרכז האליפסה נמצא בראשית הצירים.
- מוקדי האליפסה: שתי נקודות קבועות שבעבורן סכום המרחקים מכל נקודה על האליפסה הוא גודל קבוע השווה ל- $2a$. המוקדים יסומנו ב- F_1 ו- F_2 ושיעוריהם הם: $F_1(c,0)$, $F_2(-c,0)$.
- רדיוסי ווקטור: המרחקים של כל נקודה על האליפסה משני המוקדים.
אורך הרדיוס מנקודה (x, y) שעל האליפסה למוקד הימני הוא: $r_1 = a - \frac{cx}{a}$.
אורך הרדיוס מנקודה (x, y) שעל האליפסה למוקד השמאלי הוא: $r_2 = a + \frac{cx}{a}$.
- מיתר: קטע המחבר שתי נקודות שעל האליפסה.
- קוטר: מיתר העובר דרך מרכז האליפסה.

משוואות וקשרים:

- משוואת אליפסה קנונית היא: $\frac{x^2}{a^2} + \frac{y^2}{b^2} = 1$ או $b^2x^2 + a^2y^2 = a^2b^2$.
- הקשר בין הפרמטרים של האליפסה הוא: $a^2 - b^2 = c^2$.
- מכפלת שיפועי מיתר באליפסה והקוטר החוצה אותו היא קבועה ושווה ל- $-\frac{b^2}{a^2}$.

שאלות:

- (1) מצא את אורך צירי אליפסה שמשוואתה $x^2 + 4y^2 = 36$.
- (2) מצא את משוואתה של אליפסה שאורך צירה הגדול הוא 18 ואורך צירה הקטן הוא $2\sqrt{3}$.
- (3) מצא את משוואתה של אליפסה שאורך צירה הגדול הוא 12 והמרחק בין מוקדיה $8\sqrt{2}$.
- (4) מצא את משוואתה של אליפסה שאורך צירה הקטן הוא 8 והיא עוברת בנקודה $(-3\sqrt{3}, 2)$.
- (5) מצא את משוואתה של אליפסה שחסומה במעגל שמשוואתו $x^2 + y^2 = 16$ ומוקד אחד שלה הוא בנקודה $(\sqrt{10}, 0)$.
- (6) מצא את משוואתה של אליפסה שחותכת את ציר ה- y בנקודה $(0, -2\sqrt{5})$ והמרחק בין המוקד הימני לקדקוד הימני בה הוא 2.
- (7) מצא את משוואתה של אליפסה שעוברת בנקודות $(-2, \sqrt{6})$ ו- $(\sqrt{14}, 1)$.
- (8) מצא על האליפסה $3x^2 + 4y^2 = 144$ את הנקודות שהפרש מרחקיהן מהמוקדים הוא 4.
- (9) מצא את משוואתה של אליפסה שעוברת בנקודה $(-3, 1)$ ומכפלת המרחקים מנקודה זו למוקדים הוא 6.
- (10) מצא על האליפסה $x^2 + 3y^2 = 12$ את הנקודות שמהן רואים את הקטע שבין שני המוקדים בזווית ישרה.

- 11** מצא את משוואתו של קוטר באליפסה $x^2 + 4y^2 = 50$ ששיפועו חיובי ואורכו $\sqrt{56}$.
- 12** נתונים האליפסה $\frac{x^2}{30} + \frac{y^2}{24} = 1$ והישר $y = 2x + k$. מצא לאלו ערכים של הפרמטר k הישר משיק לאליפסה ולאלו ערכים של הפרמטר k הישר חותך את האליפסה.
- 13** מצא את שטחו של ריבוע החסום באליפסה $3x^2 + 5y^2 = 120$ כך שצלעותיו מקבילות לצירים.
- 14** מצא את שטחו של ריבוע החסום באליפסה $b^2x^2 + a^2y^2 = a^2b^2$ כך שצלעותיו מקבילות לצירים.
- 15** באליפסה $5x^2 + 9y^2 = 90$ חסום מלבן שצלעותיו מקבילות לצירים. מצא את שטח המלבן אם שתיים מצלעותיו עוברות במוקדי האליפסה.
- 16** באליפסה $x^2 + 5y^2 = 16$ חסום משולש שווה צלעות כך שקדקוד אחד שלו הוא הקדקוד הימני של האליפסה. מצא את שיעורי קדקודיו האחרים.
- 17** באליפסה חסום משולש שווה צלעות כך שקדקוד אחד שלו הוא הקדקוד הימני של האליפסה וקדקודיו האחרים הם נקודות החיתוך של האליפסה עם ציר ה- y . מצא את משוואת האליפסה אם אחד ממוקדיה נמצא בנקודה $(4\sqrt{2}, 0)$.
- 18** מצא באליפסה $2x^2 + 3y^2 = 12$ משוואת מיתר שנקודת האמצע שלו היא $(1.5, 1)$.
- 19** ישר שמשוואתו $x - y - 3 = 0$ חותך מאליפסה מיתר שאמצעו בנקודה $(2, -1)$. מצא את משוואת האליפסה אם ידוע שהיא עוברת בנקודה $(2\sqrt{2}, -2)$.

$$(20) \text{ נתונה המשוואה } \frac{x^2}{a^2} - \frac{y^2}{a^2 - 25} = 1, (0 < a \neq 5).$$

א. ענה על הסעיפים הבאים:

i. לאיזה ערך של a המשוואה מייצגת מעגל?

ii. לאלו ערכים של a המשוואה מייצגת אליפסה?

ב. הוכח כי בעבור $a = 4$ אין אף נקודה על האליפסה שממנה רואים את הקטע שבין המוקדים בזווית ישרה.

תשובות סופיות:

$$(1) \quad 2a = 12, 2b = 6$$

$$(2) \quad \frac{x^2}{81} + \frac{y^2}{3} = 1$$

$$(3) \quad \frac{x^2}{36} + \frac{y^2}{4} = 1$$

$$(4) \quad \frac{x^2}{36} + \frac{y^2}{16} = 1$$

$$(5) \quad \frac{x^2}{16} + \frac{y^2}{6} = 1$$

$$(6) \quad \frac{x^2}{36} + \frac{y^2}{20} = 1$$

$$(7) \quad \frac{x^2}{16} + \frac{y^2}{8} = 1$$

$$(8) \quad (4, \sqrt{24}), (4, -\sqrt{24}), (-4, \sqrt{24}), (-4, -\sqrt{24})$$

$$(9) \quad \frac{x^2}{12} + \frac{y^2}{4} = 1$$

$$(10) \quad (\sqrt{6}, \sqrt{2}), (-\sqrt{6}, \sqrt{2}), (\sqrt{6}, -\sqrt{2}), (-\sqrt{6}, -\sqrt{2})$$

$$(11) \quad y = \sqrt{6}x$$

$$(12) \text{ משיק: } k = \pm 12, \text{ חותך: } -12 < k < 12.$$

$$(13) \quad S = 60 \text{ יח"ש}$$

$$(14) \quad S = \frac{4a^2b^2}{a^2 + b^2}$$

$$(15) \quad S = 26 \frac{2}{3} \text{ יח"ש}$$

$$(16) \quad (1, \sqrt{3}), (1, -\sqrt{3})$$

$$(17) \quad \frac{x^2}{48} + \frac{y^2}{16} = 1$$

$$(18) \quad y = -x + 2.5$$

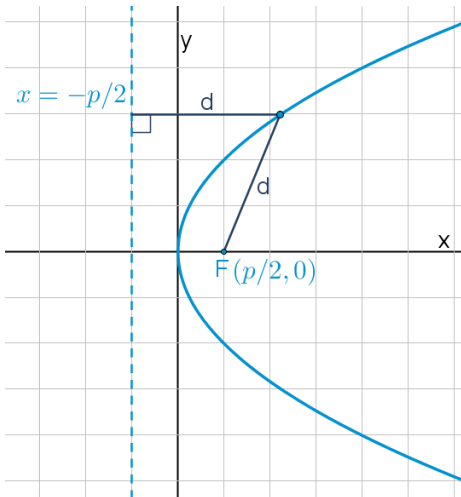
$$(19) \quad \frac{x^2}{16} + \frac{y^2}{8} = 1$$

$$(20) \text{ א. } a = \sqrt{12.5} \text{ .ii } a \neq \sqrt{12.5}$$

הפרבולה:

סיכום כללי:

הגדרה:



המקום הגאומטרי של כל הנקודות, שמרחקן מנקודה קבועה שווה למרחקן מישר קבוע נקרא פרבולה. הנקודה הקבועה נקראת מוקד הפרבולה והישר הקבוע נקרא מדריך הפרבולה.

מושגים בפרבולה:

- מוקד: נקודה קבועה שמרחק כל נקודה על הפרבולה ממנה שווה למרחק הנקודה מהמדריך.
- מדריך: ישר קבוע שמרחק כל נקודה על הפרבולה אליו שווה למרחק הנקודה מהמוקד.
- קדקוד הפרבולה: ראשית הצירים.
- רדיוס: מרחק בין המוקד לנקודה שעל הפרבולה: $r = x + \frac{p}{2}$.
- מיתר: קטע המחבר בין שתי נקודות על הפרבולה.
- קוטר (לא בחומר): ישר המקביל לציר הסימטריה של הפרבולה (ציר ה- x אצלנו).

משוואת הפרבולה:

משוואת הפרבולה הקנונית היא: $y^2 = 2px$ כאשר p הוא פרמטר הפרבולה.

משיק לפרבולה:

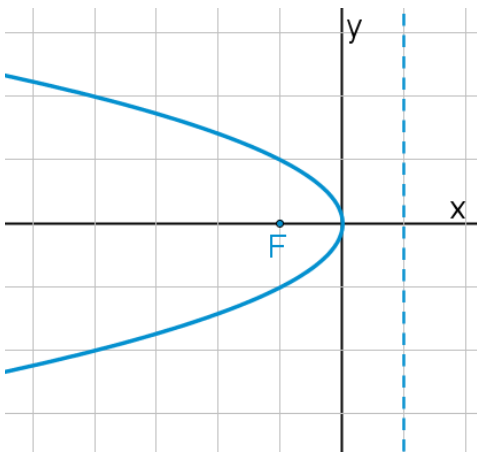
- משוואת המשיק לפרבולה $y^2 = 2px$ בנקודה $A(x_0, y_0)$ שעליה היא: $yy_0 = p(x + x_0)$.
- שיפוע המשיק לפרבולה $y^2 = 2px$ בנקודה $A(x_0, y_0)$ שעליה הוא: $m = \frac{p}{y_0}$.

מיתר המחבר שתי נקודות השקה:

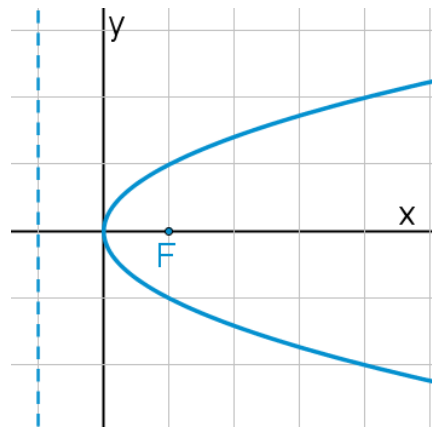
- משוואת המיתר, המחבר את שתי נקודות ההשקה של שני המשיקים לפרבולה $y^2 = 2px$ היוצאים מהנקודה $A(x_0, y_0)$ שמחוץ לפרבולה היא: $yy_0 = p(x + x_0)$.

תיאורים גרפיים:

פרבולה שמשוואתה $y^2 = -2px$:



פרבולה שמשוואתה $y^2 = 2px$:



שאלות:

- (1) נתונה הפרבולה $y^2 = 18x$. מצא מהו הפרמטר, המוקד והמדריך שלה.
- (2) מצא את משוואתה של פרבולה שהישר $x = -3$ הוא המדריך שלה.
- (3) מצא את משוואתה של פרבולה שהמרחק בין המוקד שלה למדריך שלה הוא 5.

- (4) מצא את משוואתה של פרבולה שעוברת בנקודה $(-6, 9)$.
- (5) מצא את משוואתה של פרבולה שמוקדה מתלכד עם המוקד הימני של האליפסה $x^2 + 2y^2 = 18$.
- (6) מצא נקודות על הפרבולה $y^2 = 6x$ שמרחקן מהמוקד הוא 4.
- (7) מצא נקודות על הפרבולה $y^2 = 8x$ שמרחקן מהמוקד שווה למרחקן מהקדקוד.
- (8) מצא נקודות על הפרבולה $y^2 = 2px$ שמרחקן מהמוקד שווה למרחקן מהקדקוד.
- (9) מצא את שטחו של משולש שווה צלעות שקדקוד אחד שלו נמצא בראשית הצירים ושני קדקודיו האחרים מונחים על הפרבולה $y^2 = 10x$.
- (10) הבע באמצעות p את שטחו של משולש שווה צלעות שקדקוד אחד שלו נמצא בראשית הצירים ושני קדקודיו האחרים מונחים על הפרבולה $y^2 = 2px$.
- (11) נתונה הפרבולה $y^2 = 2px$. הבע באמצעות p את שטחו של משולש שווה צלעות שקדקוד אחד שלו מונח על ציר ה- x , וקדקודיו האחרים מונחים על מדריך הפרבולה אם ידוע שמפגש תיכוני המשולש הוא מוקד הפרבולה.
- (12) את נקודה A שעל הפרבולה $y^2 = 20x$ חיברו עם המוקד F וגם העבירו ממנה אנך למדריך. היקף הטרפז, שבסיסיו הם האנך והקטע על ציר ה- x שבין מוקד הפרבולה למדריך שלה, שוק אחת שלו היא AF והשוק השנייה שלו מונחת על המדריך, הוא 27.5. חשב את שטח הטרפז.
- (13) קצות מיתר בפרבולה $y^2 = 4x$ הם A ו-B. מצא את שיעורי הנקודה B אם ידוע שהמיתר עובר במוקד הפרבולה ושערך ה- x של נקודה A הוא 4.
- (14) מצא משוואת מיתר בפרבולה $y^2 = 16x$, שעובר בראשית הצירים ומרחקו מהמוקד הוא $\frac{8}{\sqrt{5}}$.

15) מצא משוואת מיתר בפרבולה $y^2 = 2x$, שאמצעו בנקודה $\left(1\frac{1}{4}, \frac{1}{2}\right)$.

16) נתונה הפרבולה $y^2 = 4x$ והישר $y = 2x + k$, לאיזה ערך של k הישר משיק לפרבולה?

17) נתונה הפרבולה $y^2 = 6x$.

- א. מצא את משוואות המשיקים לפרבולה בנקודות שבהן $x = 1.5$.
 ב. הוכח שנקודת החיתוך של הנורמלים בנקודות אלה נמצאת על ציר ה- x .

18) הנקודות A ו-B נמצאות על הפרבולה $y^2 = 12x$. נתון כי $y_A = 4$. מצא את שיעורי נקודה B אם ידוע שהמשיקים לפרבולה בנקודות הנתונות יוצרים זווית ישרה.

19) נקודה A נמצאת על הפרבולה $y^2 = 28x$ ברביע הרביעי. אורך הנורמל לפרבולה מנקודה A עד לציר ה- x הוא $7\sqrt{5}$. מצא את משוואת הנורמל.

20) מרחק המוקד של הפרבולה $y^2 = 8x$ ממשיק לה ששיפועו חיובי הוא $\sqrt{8}$. מצא את משוואת המשיק.

21) נתונה הפרבולה $y^2 = 2px$. הבע באמצעות p את שיעורי הנקודה שעל הפרבולה ברביע הראשון, שמרחק המשיק בה ממוקד הפרבולה הוא p .

22) נתונות שתי פרבולות: I. $y^2 = 6x$, II. $y^2 = 12x$. ישר שעובר בראשית הצירים חותך את הפרבולות בנקודות A ו-B. הראה כי המשיקים בנקודות A ו-B מקבילים.

23) נתונה הפרבולה $y^2 = 14x$ והנקודה $(-1, -3)$, ממנה יוצאים שני משיקים לפרבולה. מצא את משוואת המיתר המחבר בין נקודות ההשקה.

- (24)** נתונה הפרבולה $y^2 = 18x$ ונקודה ברביע השלישי, ששיעור ה- x שלה קטן ב-1 משיעור ה- y שלה. מהנקודה יוצאים שני משיקים לפרבולה. המיתר המחבר בין נקודות ההשקה יוצר עם הצירים משולש ששטחו 18. מצא את משוואת המיתר.
- (25)** מצא את משוואתו של מעגל שמרכזו במוקד הפרבולה $y^2 = 24x$ והוא משיק למדריך שלה.
- (26)** מצא את משוואתו של מעגל שמרכזו בנקודה $(8,0)$ והוא משיק לפרבולה $y^2 = 10x$ בשתי נקודות.
- (27)** נתונה הפרבולה $y^2 = 2px$ ומעגל שמרכזו על ציר ה- x והוא משיק לפרבולה מבפנים בשתי נקודות. הישר המחבר בין נקודות ההשקה יוצר עם המשיקים בנקודות אלה משולש שווה צלעות. הבע באמצעות p את משוואת המעגל.
- (28)** הנקודה $A(2,3)$ נמצאת על פרבולה. מצא את משוואתו של מעגל שמשיק לפרבולה בנקודה A ומשיק לציר ה- y .
- (29)** נתונה הפרבולה $y^2 = 2px$ שבה $p > 4$. הישר $x = 2$ חותך את הפרבולה בנקודות A ו- B . הבע באמצעות p את שיעורי קדקוד C של משולש $\triangle ABC$ שמוקד הפרבולה הוא מפגש האנכים האמצעיים בו, אם ידוע שקדקוד C נמצא על ציר ה- x .
- (30)** אליפסה שמשוואתה $x^2 + 4y^2 = 16$ חותכת את הפרבולה $y^2 = 2px$ בשתי נקודות. המרובע שקדקודיו הם נקודות החיתוך, מרכז האליפסה וקדקודה הימני של האליפסה הוא מעויך. מצא את משוואת הפרבולה.

תשובות סופיות:

- (1) $p = 9, F\left(4\frac{1}{2}, 0\right)$
- (2) $y^2 = 12x$
- (3) $y^2 = 10x$
- (4) $y^2 = 4x$
- (5) $y^2 = 12x$
- (6) $\left(2\frac{1}{2}, \sqrt{15}\right), \left(2\frac{1}{2}, -\sqrt{15}\right)$
- (7) $(1, \sqrt{8}), (1, -\sqrt{8})$
- (8) $\left(\frac{p}{4}, \frac{p}{\sqrt{2}}\right), \left(\frac{p}{4}, -\frac{p}{\sqrt{2}}\right)$
- (9) $S_{OAB} = 300\sqrt{3}$ יח"ש
- (10) $S_{ABO} = 12\sqrt{3}p^2$ יח"ש
- (11) $S_{ABC} = 3\sqrt{3}p^2$ יח"ש
- (12) $S_{ABCF} = 40\frac{5}{8}$ יח"ש
- (13) $B\left(\frac{1}{4}, 1\right)$ או $B\left(\frac{1}{4}, -1\right)$
- (14) $y = -2x$ או $y = 2x$
- (15) $y = 2x - 2$
- (16) $k = \frac{1}{2}$
- (17) $y = x + 1\frac{1}{2}, y = -x - 1\frac{1}{2}$.א
- (18) $B\left(6\frac{3}{4}, -9\right)$
- (19) $y = \frac{1}{2}x - 7\frac{7}{8}$
- (20) $y = x + 2$
- (21) $A\left(\frac{3}{2}p, \sqrt{3}p\right)$
- (22) הוכחה.
- (23) $7x + 3y - 7 = 0$
- (24) $y = -9x + 18$
- (25) $(x - 6)^2 + y^2 = 144$
- (26) $(x - 8)^2 + y^2 = 55$
- (27) $\left(x - 2\frac{1}{2}p\right)^2 + y^2 = 4p^2$
- (28) $\left(x - 1\frac{1}{4}\right)^2 + (y - 4)^2 = \frac{25}{16}$
- (29) $C(p + 2, 0)$
- (30) $y^2 = 1\frac{1}{2}x$