

מכינה במתמטיקה למדעים מדויקים

פרק 13 - גיאומטריה אוקלידית - מרובעים

תוכן העניינים

1	1. מרובע כללי
3	2. המקבילית
8	3. המלבן
11	4. המעוין
14	5. הריבוע
16	6. הטרפז
22	7. הדלתון
24	8. סיכום משפחת המרובעים

מרובע כללי:

סיכום כללי:

הגדרה: מרובע הוא מצולע בעל 4 צלעות.

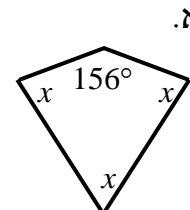
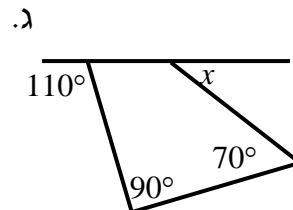
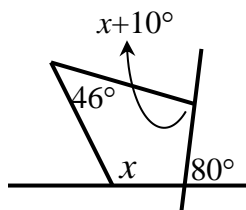
משפט: סכום זוויות במרובע הוא 360° .

שאלות:

(1) בסרטוטים שלפניך מופיעים מרובעים שונים.

חלק מהזוויות מסומנות ב- x .

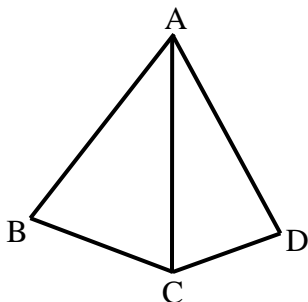
מצא את x ואת הזוויות של כל מרובע.



(2) מצא את זוויות המרובע בכל אחד מהמקרים הבאים:

כל זווית במרובע (פרט לראשונה) גדולה ב- 10° מהזווית הקודמת לה.

זוויות המרובע מתייחסות זו לזו כמו: 1: 2: 3: 4.

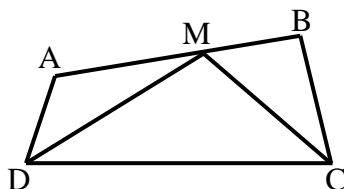


(3) המשולשים ABC ו-ACD שבציור הם משולשים

שווי שוקיים ($AB = AC = AD$).

נתון: $\angle BAD = 80^\circ$.

חשב את גודלה של הזווית BCD.



(4) בסרטוט שלפניך נתון מרובע ABCD.

CM חוצה את זווית C ו-DM חוצה את זווית D.

ידוע כי: $CM = DM$, $\angle A = 130^\circ$, $\angle DMC = 110^\circ$.

מצא את שאר זוויות המרובע ABCD.


תשובות סופיות:

- (1) א. $x = 68^\circ$ ב. $x = 50^\circ$ ג. $x = 102^\circ$
- (2) א. $75^\circ, 85^\circ, 95^\circ, 105^\circ$ ב. $36^\circ, 72^\circ, 108^\circ, 144^\circ$
- (3) 140°
- (4) $\sphericalangle B = 90^\circ, \sphericalangle C = \sphericalangle D = 70^\circ$

המקבילית:

סיכום כללי:

הגדרה: מקבילית היא מרובע שבו שני זוגות של צלעות נגדיות מקבילות.



- במקבילית כל שתי צלעות נגדיות שוות זו לזו.
- במקבילית כל שתי זוויות נגדיות שוות.
- במקבילית סכום כל שתי זוויות סמוכות הוא 180° .
- במקבילית האלכסונים חוצים זה את זה.
- היקף מקבילית = סכום הצלעות, שטח מקבילית = צלע · גובה לצלע.

כדי להוכיח כי מרובע הוא מקבילית נשתמש באחת הדרכים הבאות:

- מרובע שבו כל זוג צלעות נגדיות מקבילות הוא מקבילית.
- מרובע שבו כל זוג צלעות נגדיות שוות הוא מקבילית.
- מרובע שבו זוג צלעות שוות ומקבילות הוא מקבילית.
- מרובע שבו כל זוג זוויות נגדיות שוות הוא מקבילית.
- מרובע שאלכסוניו חוצים זה את זה הוא מקבילית.

שאלות:

5 נתונה מקבילית ABCD.

בכל אחד מהסעיפים הבאים הזוויות מיוצגות ע"י תבניות מספר שונות. מצא את זוויות המקבילית בכל מקרה.

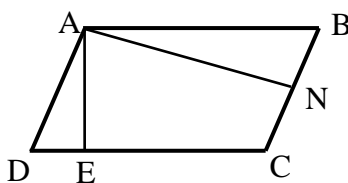


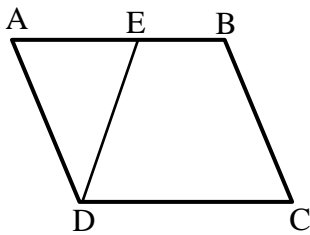
- א. $\angle A = x$, $\angle B = x - 70^\circ$
- ב. $\angle B = 3x - 130^\circ$, $\angle D = x + 10^\circ$
- ג. $\angle A = x + 20^\circ$, $\angle C = 100^\circ - x$

6 המרובע ABCD הוא מקבילית

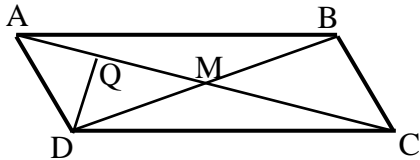
ובו: $AE \perp CD$, $AN \perp BC$

הוכח כי: $\angle DAE = \angle BAN$

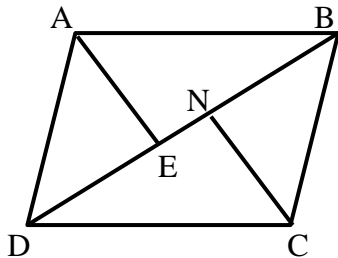




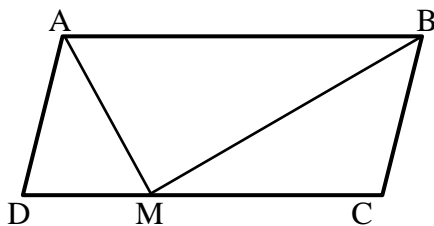
- 7) במקבילית ABCD הנקודה E נמצאת על הצלע AB כך שמתקיים: $DE = BC$. הוכח כי: $\angle EAD = \angle EDC$.



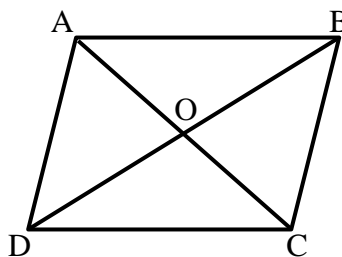
- 8) נתונה מקבילית ABCD שאלכסוניה נפגשים בנקודה M. נתון: $AC = 20$ ס"מ, $BC = \frac{1}{2}BD$ ו- $DQ \perp AC$. חשב את אורך הקטע AQ.



- 9) הוכח כי במקבילית הקדקודים הנגדיים נמצאים במרחקים שווים מאלכסון המקבילית שאינו עובר דרכם, כלומר הוכח: $AE = CN$.

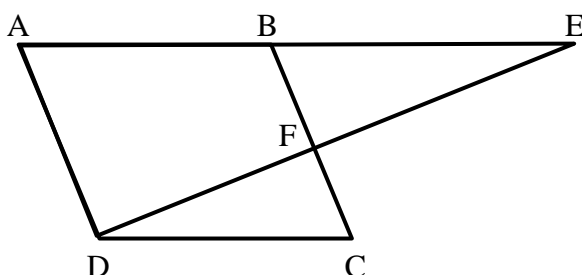


- 10) במקבילית ABCD הקטעים AM ו-BM הם חוצי הזוויות של A ו-B בהתאמה אשר נפגשים בנקודה M שעל הצלע DC. א. הוכח כי: $AB = 2BC$. ב. הוכח כי המשולש AMB הוא ישר זווית.



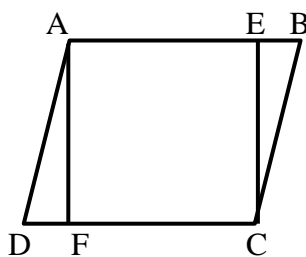
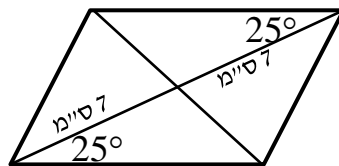
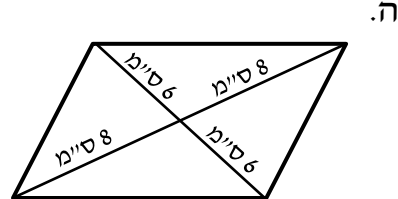
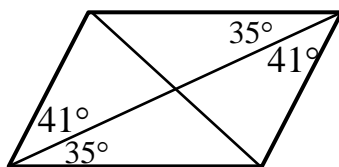
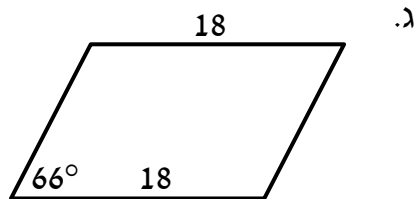
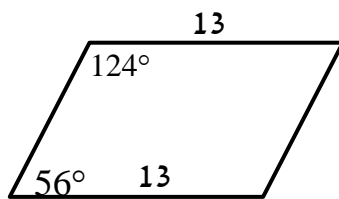
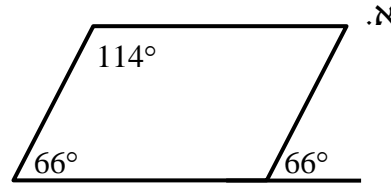
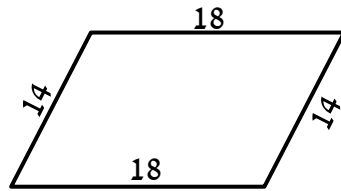
- 11) המרובע ABCD הוא מקבילית. O – פגישת האלכסונים. נתון: $AO = x + 1$, $BO = x + 8$, $DO = 3x - 10$. מצא את אורכי האלכסונים AC ו-BD.

- 12) נתונה מקבילית ABCD ובה: $\angle ADC = 120^\circ$, $\angle BEF = \frac{1}{2} \angle EAD$.

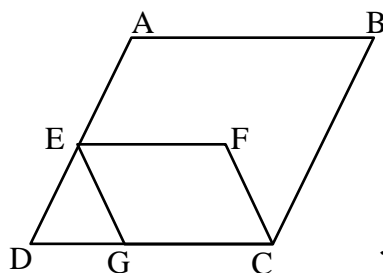


הוכח כי: $BC \perp ED$.

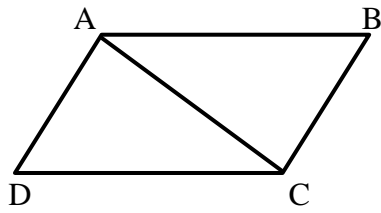
13) בסרטוטים שלפניך מופיעים מרובעים שונים. קבע אלו מהם הם מקביליות וציין מדוע.



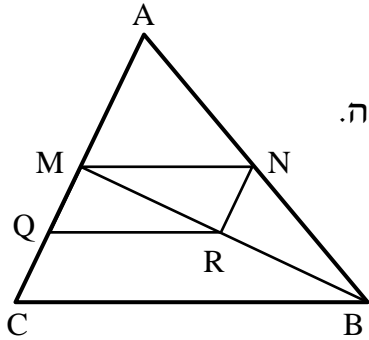
14) במקבילית ABCD הנקודות E ו-F נמצאות על הצלעות AB ו-CD בהתאמה. נתון: $\angle DAF = \angle BCE$. הוכח כי המרובע AECF הוא מקבילית.



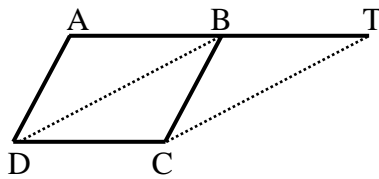
15) במקבילית ABCD הנקודות E ו-G נמצאות על הצלעות AD ו-DC בהתאמה כך שהמשולש DEG הוא שווה צלעות. הנקודה F נמצאת בתוך המקבילית כך שהקטע EF מקביל לצלע AB. א. הוכח: $\angle DAB = \angle EGC$. ב. נתון: $\angle GCF = \angle ABC$. הוכח כי EFCG מקבילית.



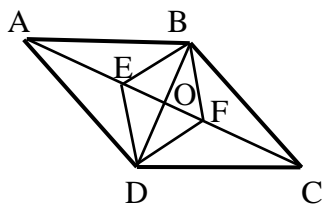
- 16) במרובע ABCD נתון כי הצלעות AB ו-DC שוות.
כמו כן: $AD \perp AC$, $BC \perp AC$.
הוכח כי המרובע ABCD הוא מקבילית.



- 17) נתון משולש ABC ובו הקטע MN הוא קטע אמצעים.
הנקודות Q ו-R הן אמצעי הקטעים MC ו-BM בהתאמה.
א. הוכח כי המרובע MNRQ הוא מקבילית.
ב. ידוע כי הקטע AN שווה לקטע QR.
איזה סוג משולש הוא $\triangle AMB$? נמק.



- 18) את הצלע AB במקבילית ABCD האריכו
כאורכה עד לנקודה T.
הוכח: BTCD מקבילית.
הערה: בסרטון השאלה מוצגת ללא הסרטוט הנתון.



- 19) הנקודה O היא מפגש אלכסוני המקבילית ABCD. E ו-F הן נקודות על האלכסון AC.
נתון: $AE = FC$.
הוכח כי EBFD הוא מקבילית.

תשובות סופיות:

- א. $125^\circ, 55^\circ$ (5)
 ב. $100^\circ, 80^\circ$ (6) שאלת הוכחה.
 ג. $120^\circ, 60^\circ$ (7) שאלת הוכחה.
 (8) 5 ס"מ. שאלת הוכחה.
 (9) שאלת הוכחה.
 (10) שאלת הוכחה.
 (11) $BD = 34$ ס"מ, $AC = 20$ ס"מ. שאלת הוכחה.
 (12) שאלת הוכחה.
 (13) מקביליות: א', ב', ד', ה', ו', ח' אינן מקביליות: ג', ז'.
 (14) שאלת הוכחה.
 (15) שאלת הוכחה.
 (16) שאלת הוכחה.
 (17) שאלת הוכחה.
 (18) שאלת הוכחה.
 (19) שאלת הוכחה.

המלבן:

סיכום כללי:

הגדרה: מלבן הוא מרובע שכל זוויותיו ישרות.
 (מסקנה: מלבן הוא סוג של מקבילית).

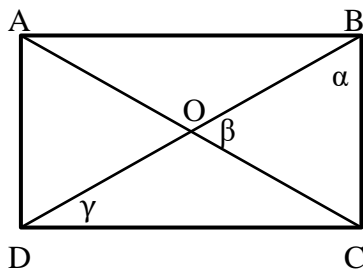
תכונות המלבן (בנוסף לתכונות המקבילית):

- ארבע זוויות המלבן שוות והן זוויות ישרות.
- האלכסונים במלבן שווים זה לזה
- היקף מלבן סכום הצלעות, שטח מלבן צלע גובה לצלע.

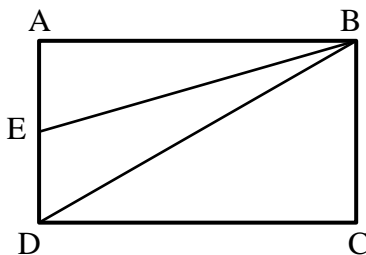
כדי להוכיח כי מרובע הוא מלבן נשתמש באחת הדרכים הבאות:

- מרובע שבו שלוש זוויות ישרות הוא מלבן.
- מקבילית שבה זווית ישרה היא מלבן.
- מקבילית שבה האלכסונים שווים היא מלבן.

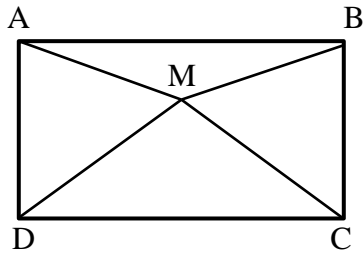
שאלות:



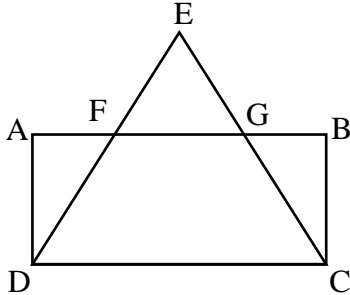
- 20** המרובע ABCD הוא מלבן.
 מעבירים את האלכסונים AC ו-BD.
 חשב את הזוויות α ו- β במקרים הבאים:
- א. β קטנה ב- 15° מ- α .
 - ב. $\alpha = 2\gamma$.
 - ג. $\gamma = 28^\circ$.



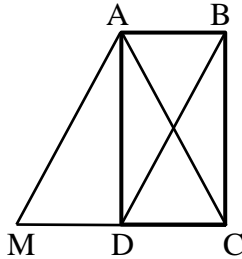
- 21** במלבן ABCD הנקודה E נמצאת על הצלע AD.
 נתון: $\angle AEB = 70^\circ$, $BD = 2BC$.
 חשב את גודלה של הזווית EBD.



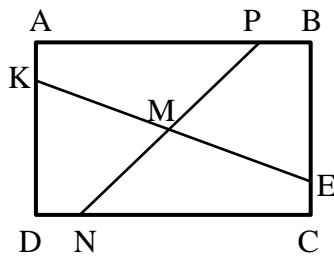
(22) נתון מלבן ABCD שבו $DM = MC$.
הוכח: $\angle MAB = \angle MBA$.



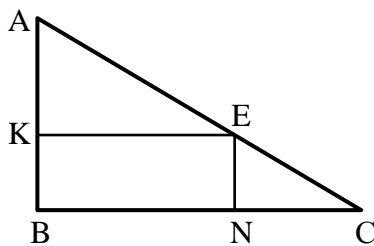
(23) המרובע ABCD הוא מלבן.
המשכי הקטעים DF ו-CG נפגשים
בנקודה E.
נתון: $EF = EG$.
הוכח: $FD = GC$.



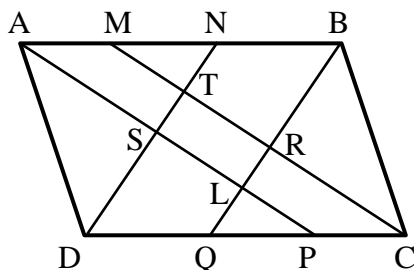
(24) המרובע ABCD הוא מלבן.
המרובע ABDM הוא מקבילית.
הוכח כי המשולש ACM הוא שווה שוקיים.



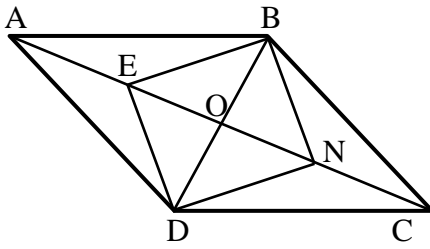
(25) מרובע ABCD הוא מלבן.
נתון: $AP = CN$, $AK = CE$.
הוכח: $KM = EM$, $PM = NM$.



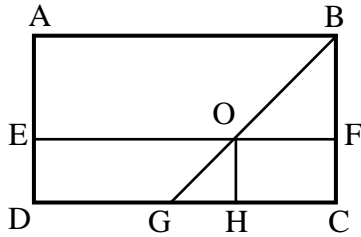
(26) $\triangle ABC$ הוא משולש ישר זווית ($\angle B = 90^\circ$).
המרובע KENB חסום במשולש זה.
נתון כי: $\angle AEK = \angle C$, $\angle NEC = \angle A$.
הוכח כי המרובע KENB הוא מלבן.



(27) נתונה מקבילית ABCD
ובה DN , CM , BQ , AP
הם חוצי הזוויות $\angle A$, $\angle B$, $\angle C$, ו- $\angle D$
בהתאמה.
הוכח: $TRLS$ מלבן.



- (28)** מרובע ABCD הוא מקבילית.
 מעבירים את האלכסונים AC ו-BD
 אשר נחתכים בנקודה O.
 נתון: $2BD = AC$.
 E – אמצע AO. N – אמצע CO.
 הוכח כי המרובע BNDE הוא מלבן.



- (29)** במלבן ABCD נתון:
 $OH \perp DC$, $\angle ABO = \angle BOF$
 הוכח: EOHD הוא מלבן.

תשובות סופיות:

ב. $\alpha = \beta = 60^\circ$, $\gamma = 30^\circ$

(20) א. $\alpha = 55^\circ$, $\beta = 70^\circ$, $\gamma = 35^\circ$

ג. $\alpha = 62^\circ$, $\beta = 56^\circ$

(21) 10°

(22) שאלת הוכחה.

(23) שאלת הוכחה.

(24) שאלת הוכחה.

(25) שאלת הוכחה.

(26) שאלת הוכחה.

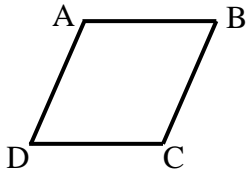
(27) שאלת הוכחה.

(28) שאלת הוכחה.

(29) שאלת הוכחה.

המעוין:

סיכום כללי:



הגדרה: מעוין הוא מרובע שכל צלעותיו שוות.
 (מסקנה: מעוין הוא סוג של מקבילית).

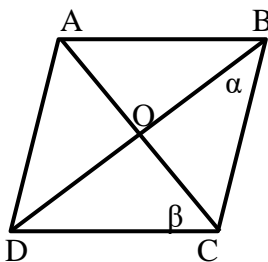
תכונות המעוין (בנוסף לתכונות המקבילית):

- במעוין כל הצלעות שוות.
- במעוין האלכסונים מאונכים זה לזה.
- במעוין האלכסונים הם חוצי זוויות.
- היקף מעוין = צלע $\cdot 4$, שטח מעוין = צלע \cdot גובה לצלע = $(\text{אלכסון} \cdot \text{אלכסון}) / 2$.

כדי להוכיח כי מרובע הוא מעוין נשתמש באחת הדרכים הבאות:

- מרובע שבו כל הצלעות שוות הוא מעוין.
- מקבילית שבה שתי צלעות סמוכות שוות היא מעוין.
- מקבילית שבה האלכסונים מאונכים זה לזה היא מעוין.
- מקבילית שבה אלכסון חוצה זווית היא מעוין (מספיק אחד).

שאלות:



30) המרובע ABCD הוא מעוין.

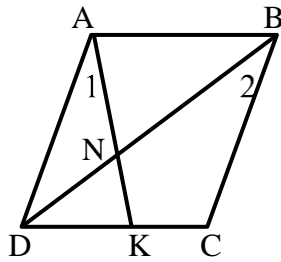
חשב בכל אחד מהמקרים הבאים את α ו- β .

א. $\angle A = 138^\circ$.

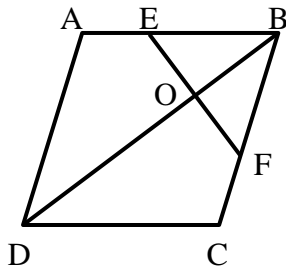
ב. $\beta = 3.5\alpha$.

ג. $\beta = \alpha + 20^\circ$.

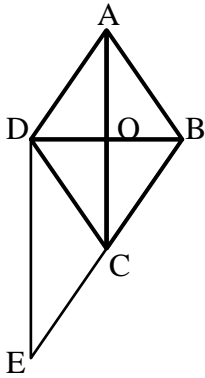
ד. $\angle B = \beta$.



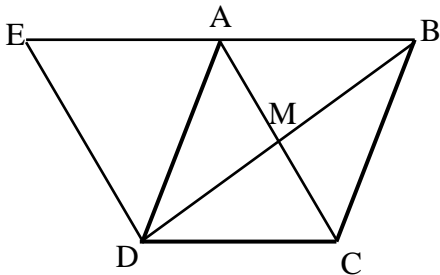
- 31** המרובע ABCD הוא מעוין.
מעבירים את האלכסון BD ואת הקטע AK
אשר נחתכים בנקודה N.
ידוע כי: $\angle A_1 = \angle B_2$.
א. הוכח כי המשולש ADN הוא שווה שוקיים.
ב. הוכח כי: $\angle AND = \angle C$.



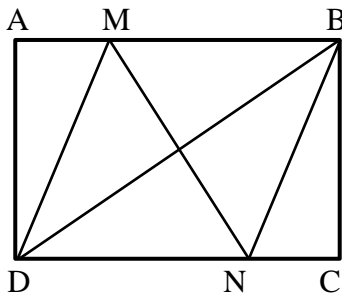
- 32** מעוין ABCD הנקודות E ו-F
נמצאות על הצלעות AB ו-BC בהתאמה.
נתון: $\angle DCB = 120^\circ$, $EF \perp BD$.
הוכח כי משולש EBF הוא שווה צלעות.



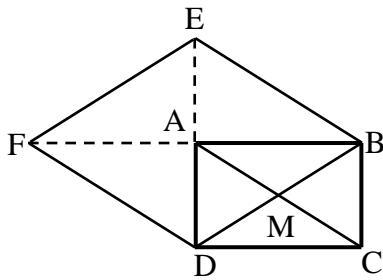
- 33** נתון מעוין ABCD.
הנקודה E נמצאת על המשך הצלע BC.
נתון: $\angle CDE = \angle BCA$.
הוכח כי המשולש BDE הוא ישר זווית.



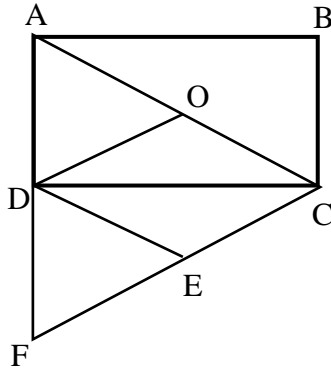
- 34** נתון מעוין ABCD שאלכסונו נפגשים בנקודה M.
האריכו את הצלע AB עד לנקודה E
כך שמתקיים: $DE \perp BD$.
הוכח: $AD = AE$.



- 35** במלבן ABCD מעבירים את האלכסון BD.
הנקודות M ו-N נמצאות על הצלעות AB
ו-DC בהתאמה.
נתון: $AM = CN$ ו- $DM = DN$.
הוכח כי הקטע MN חוצה את
הזוויות BMD ו-BND.



36 נתון מלבן ABCD שאלכסונו נפגשים בנקודה M. האריכו את הצלע AB כאורכה עד לנקודה F ואת הצלע AD כאורכה עד לנקודה E כמתואר בשרטוט. הוכח: המרובע EBDF הוא מעוין.



37 ABCD הוא מלבן שאלכסונו נחתכים בנקודה O. הנקודה F נמצאת על המשך הצלע AD כך שמתקיים: $AD = DF$. נתון: $FE = CE$. הוכח כי DOCE הוא מעוין.

תשובות סופיות:

ב. $\alpha = 20^\circ, \beta = 70^\circ$

ד. $\alpha = 30^\circ, \beta = 60^\circ$

30 א. $\alpha = 21^\circ, \beta = 69^\circ$

ג. $\alpha = 35^\circ, \beta = 55^\circ$

31 שאלת הוכחה.

32 שאלת הוכחה.

33 שאלת הוכחה.

34 שאלת הוכחה.

35 שאלת הוכחה.

36 שאלת הוכחה.

37 שאלת הוכחה.

הריבוע:

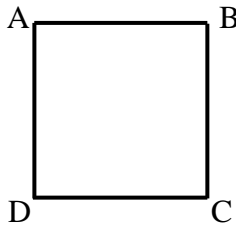
סיכום כללי:

הגדרה: ריבוע הוא מרובע שכל צלעותיו שוות וכל זוויותיו שוות.

(מסקנה: ריבוע הוא סוג של מקבילית, סוג של מלבן וסוג של מעוין).

מכאן, שבנוסף לתכונות שבהגדרת הריבוע מתקיים כי אלכסונו הריבוע חוצים זה את זה, שווים זה לזה, מאונכים זה לזה וחוצים את זוויות הריבוע.

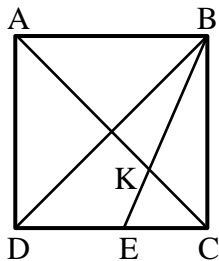
היקף ריבוע = צלע $\cdot 4$, שטח ריבוע = $(צלע)^2 = (אלכסון)^2 / 2$



כדי להוכיח כי מרובע הוא ריבוע נשתמש באחת הדרכים הבאות:

- מלבן שבו האלכסונים מאונכים הוא ריבוע.
- מלבן שבו אלכסון חוצה זווית הוא ריבוע.
- מלבן שבו שתי צלעות סמוכות שוות הוא ריבוע.
- מעוין שבו האלכסונים שווים הוא ריבוע.
- מעוין שבו זווית ישרה הוא ריבוע.

שאלות:

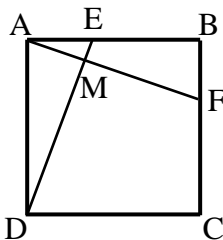


38 המרובע ABCD הוא ריבוע.

מעבירים את האלכסונים AC ו-BD.

BE חוצה זווית DBC וחותך את AC בנקודה K.

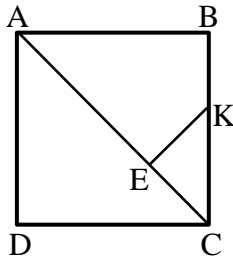
הוכח: $CE = CK$.



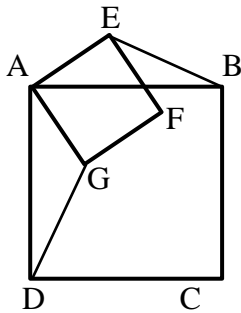
39 בריבוע ABCD מעבירים את הקטעים AF ו-DE.

נתון כי $AE = BF$.

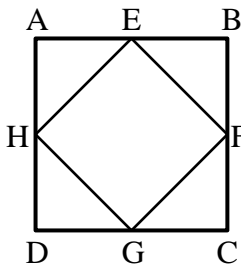
הוכח: $DE \perp AF$.



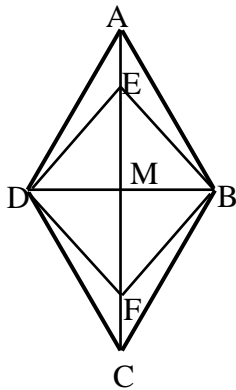
- 40** המרובע ABCD הוא ריבוע.
מעבירים את האלכסון AC.
מהנקודה E שעל האלכסון מעבירים את הקטע KE אשר מאונך לאלכסון.
נתון: $AE = AB$.
הוכח כי: $CE = KE = BK$.



- 41** המרובעים ABCD ו-AEFG הם ריבועים.
הוכח: $BE = DG$.



- 42** הנקודות E, F, G, H הן אמצעי צלעות הריבוע ABCD.
הוכח כי EFGH הוא ריבוע.



- 43** נתון מעוין ABCD שאלכסונו נפגשים בנקודה M.
נתון: $\angle EBA = 15^\circ$, $MB = \frac{1}{2} AB$, $AE = FC$.
הוכח: המרובע EBFM הוא ריבוע.

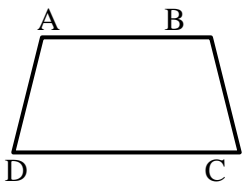
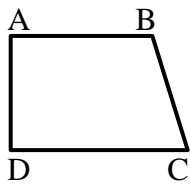
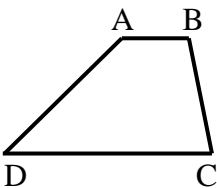
תשובות סופיות:

- 38** שאלת הוכחה.
39 שאלת הוכחה.
40 שאלת הוכחה.
41 שאלת הוכחה.
42 שאלת הוכחה.
43 שאלת הוכחה.

הטרפז:

סיכום כללי:

הגדרה: טרפז הוא מרובע שבו זוג אחד בלבד של צלעות נגדיות מקבילות.
היקף טרפז = סכום הצלעות, שטח טרפז = $(\text{גובה} \cdot \text{סכום הבסיסים}) / 2$.

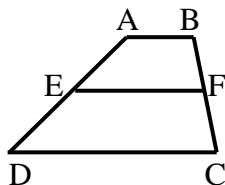
טרפז שווה שוקיים	טרפז ישר זווית	טרפז כללי	סוג הטרפז
			איור מתאים

משפטים הנוגעים לטרפז שווה שוקיים:

- בטרפז שווה שוקיים הזוויות שליד אותו בסיס שוות זו לזו.
- (משפט הפוך) טרפז שבו הזוויות שליד אותו בסיס שוות זו לזו הוא טרפז שווה שוקיים.
- בטרפז שווה שוקיים האלכסונים שווים זה לזה.
- (משפט הפוך) טרפז שבו האלכסונים שווים זה לזה הוא טרפז שווה שוקיים.

קטע אמצעים בטרפז:

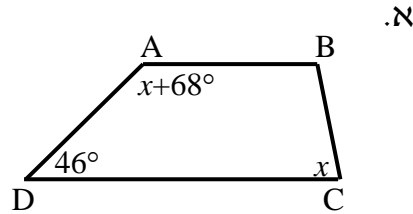
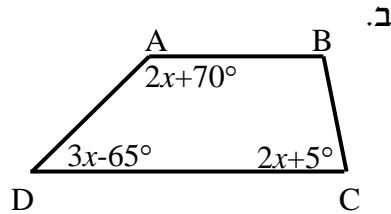
הגדרה: קטע אמצעים בטרפז הוא קטע המחבר את אמצעי השוקיים בטרפז.



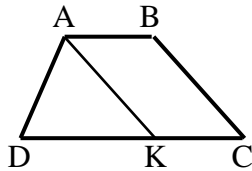
- קטע אמצעים בטרפז מקביל לבסיסים ושווה למחצית סכומם.
- (משפט הפוך) קטע היוצא מאמצע שוק אחת בטרפז ומקביל לבסיסים, חוצה את השוק השנייה (כלומר הוא קטע אמצעים בטרפז).

שאלות:

44 בסרטוטים שלפניך נתונים טרפזים כלליים $(AB \parallel CD)$. מצא את x ואת זוויות הטרפז בכל מקרה.

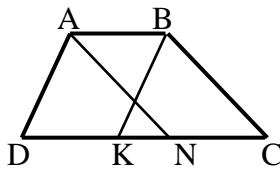


45 המרובע ABCD הוא טרפז $(AB \parallel CD)$.



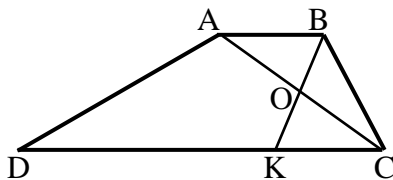
מעבירים את הקטע AK.
נתון: $AK = DK$, $AK \parallel BC$,
 $AB = 6$ ס"מ, $DC = 14$ ס"מ.
חשב את אורך השוק BC.

46 המרובע ABCD הוא טרפז $(AB \parallel CD)$.



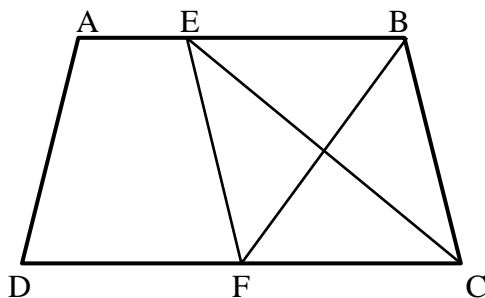
נתון כי: $AN \parallel BC$, $AD \parallel BK$.
הוכח כי: $DK = CN$.

47 המרובע ABCD הוא טרפז $(AB \parallel CD)$.

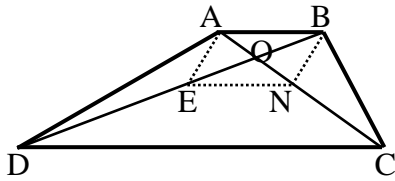


מעבירים את האלכסון AC ואת הקטע BK אשר חוצים זה את זה בנקודה O.
ידוע כי: $\angle C = 60^\circ$, $\angle D = 30^\circ$.
א. חשב את אורך DC, הבסיס הגדול,
אם ידוע כי: $AB = 7$ ס"מ, $BC = 9$ ס"מ.
ב. הוכח כי אם $AB = BC$ אז: $DC = 3AB$.

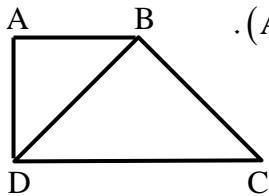
48 נתון טרפז ABCD $(AB \parallel CD)$ ובו



הקטעים CE ו-BF חוצים את זוויות הקדקודים C ו-B בהתאמה. הוכח:
א. $BF \perp CE$.
ב. המשולש EBC הוא שווה שוקיים.
ג. המרובע EBCF הוא מעויך.

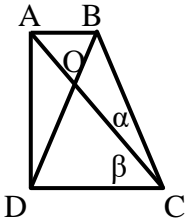


- (49) מרובע ABCD הוא טרפז ($AB \parallel CD$).
 O - היא נקודת פגישת האלכסונים.
 נתון: $BO = EO$, $AO = NO$.
 הוכח כי המרובע ENCD הוא טרפז.



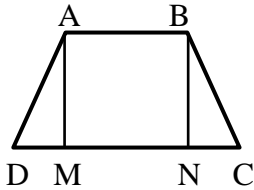
- (50) המרובע ABCD הוא טרפז ישר זווית ($AB \parallel CD$, $\angle D = 90^\circ$).

האלכסון BD חוצה את זווית D
 ונתון בנוסף כי: $BD = BC$ וכי: $AD = 15$ ס"מ.
 חשב את אורכי בסיסי הטרפז.



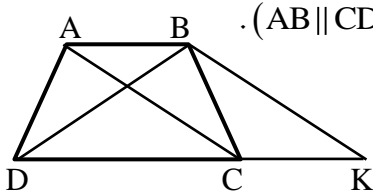
- (51) המרובע ABCD הוא טרפז ישר זווית

($AB \parallel CD$, $AD \perp DC$).
 נתון כי: $BD = BC$, $\beta = 2\alpha$ ו- $\angle DOC = 80^\circ$.
 חשב את זוויות הטרפז.



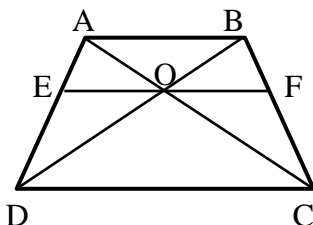
- (52) מרובע ABCD הוא טרפז שווה

שוקיים ($AB \parallel CD$, $AD = BC$).
 נתון כי: $AM \perp DC$, $BN \perp DC$.
 הוכח כי: $DM = CN$.



- (53) מרובע ABCD הוא טרפז שווה שוקיים ($AB \parallel CD$, $AD = BC$).

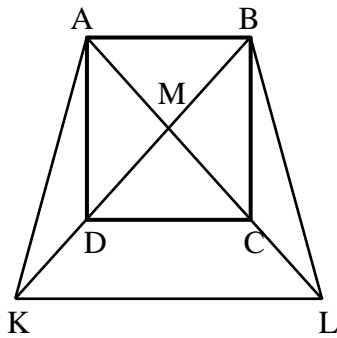
דרך הנקודה B מעבירים מקביל ל-AC הפוגש את המשך הבסיס DC בנקודה K.
 הוכח כי משולש BDK הוא שווה שוקיים.



- (54) מרובע ABCD הוא טרפז שווה שוקיים ($AB \parallel CD$, $AD = BC$).

O היא פגישת האלכסונים.
 נתון כי: $EF \parallel DC$ כאשר EF עובר דרך O.
 הוכח:

- א. $\angle BOF = \angle COF$.
 ב. $EO = FO$.



55 נתון ריבוע ABCD.

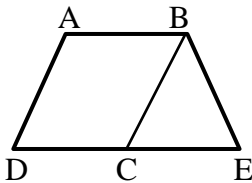
הנקודה M היא מפגש האלכסונים AC ו-BD. ממשיכים את האלכסונים ויוצרים את הטרפז השווה שוקיים ABLK.

ידוע גם כי DC הוא קטע אמצעים משולש KML. א. קבע אלו מהטענות הבאות ניתן להוכיח:

- i. המשולש KML הוא ישר זווית ושווה שוקיים.
- ii. הקטעים BK ו-BL מאונכים זה לזה.
- iii. המרובע DCLK הוא טרפז שווה שוקיים.
- iv. הקטעים DK ו-AD שווים זה לזה.

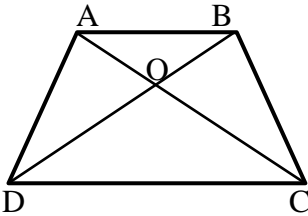
ב. הוכח כי: $3DK = AL$.

ג. נתון כי $AD = 8\sqrt{2}$ ס"מ. חשב את היקף הטרפז ABLK.



56 המרובע ABCD הוא מקבילית.

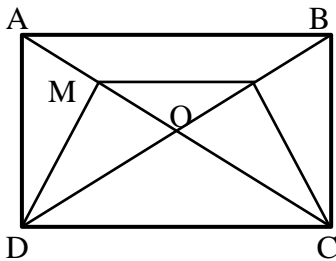
הקטע DE הוא קו ישר ונתון כי: $\angle A + \angle E = 180^\circ$. הוכח כי המרובע ABED הוא טרפז שווה שוקיים.



57 במרובע ABCD הנקודה O היא פגישת האלכסונים.

נתון כי: $CO = DO$, $AO = BO$.

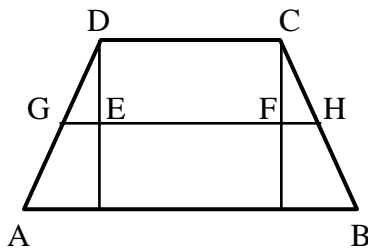
הוכח כי מרובע ABCD הוא טרפז שווה שוקיים.



58 נתון מלבן ABCD שאלכסוניו נפגשים בנקודה O.

נתון: $MN \parallel DC$.

הוכח: טרפז DMNC שווה שוקיים.

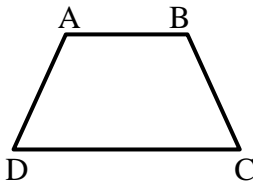


59 בטרפז ABCD ($AB \parallel CD$) הורדו מקצות הבסיס הקטן אנכים לבסיס הגדול.

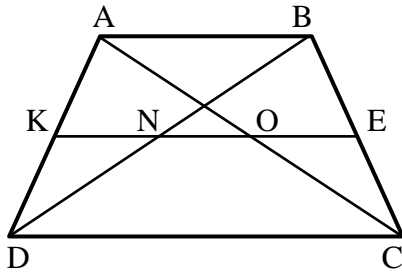
קטע האמצעים GH חותך גבהים אלה בנקודות E ו-F.

נתון: $GE = 3$ ס"מ, $EF = 12$ ס"מ, $FH = 2$ ס"מ.

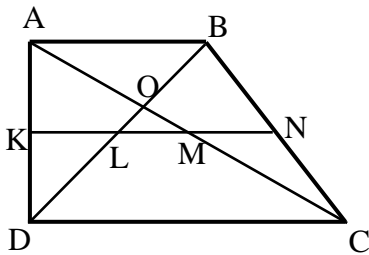
חשב את בסיסי הטרפז.



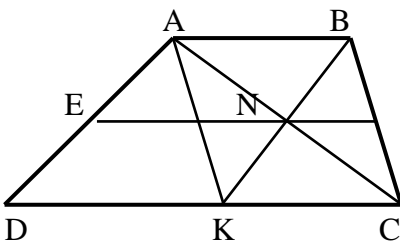
60) סכום כל אורכי הצלעות של טרפז שווה שוקיים הוא 54 ס"מ.
אורך קטע האמצעים הוא 13 ס"מ.
מצא את אורך שוק הטרפז.



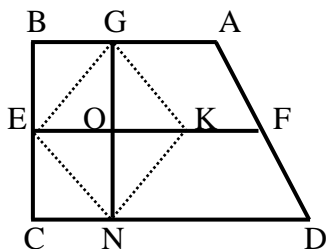
61) המרובע ABCD הוא טרפז ($AB \parallel CD$).
KE הוא קטע אמצעים בטרפז, החותך את אלכסוני הטרפז בנקודות N ו-O.
א. הוכח כי: $KN = EO$.
ב. בטרפז הנ"ל נתון:
 $AB = 14$ ס"מ, $DC = 26$ ס"מ.
חשב את אורכי הקטעים KN, NO ו-EO.
ג. בטרפז הנ"ל נתון: $KE = 13$ ס"מ,
 $NO = 3$ ס"מ. חשב את בסיסי הטרפז.



62) KN הוא קטע אמצעים בטרפז ישר זווית ABCD שאלכסוניו ($AB \parallel CD, AD \perp AB$) נפגשים בנקודה O.
נתון: $AD = 12$ ס"מ, $DC = 2AB$, $\angle ADB = 45^\circ$.
חשב את אורך הקטע LM והוכח כי: $KL = LM = MN$.



63) מרובע ABCD הוא טרפז ($AB \parallel CD$).
EF הוא קטע אמצעים. AC ו-BK נפגשים בנקודה N הנמצאת על EF.
א. הוכח כי מרובע ABCK הוא מקבילית.
ב. נתון: $EF = 13$ ס"מ, $EN = 9$ ס"מ.
חשב את בסיסי הטרפז AB ו-DC ואת הקטע DK.



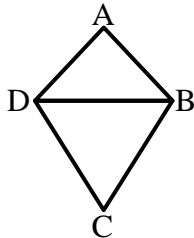
64) המרובע ABCD הוא טרפז ישר זווית ($AB \parallel CD, \angle B = 90^\circ$).
EF קטע אמצעים בטרפז.
G ו-N הן נקודות על AB ו-CD בהתאמה המקיימות: $GN \perp DC$.
בנוסף נתון: $\angle D < 90^\circ, KO = EO$.
הוכח כי מרובע GENK הוא מעוין.

תשובות סופיות:

- (44) א. $x = 66^\circ$; $46^\circ, 134^\circ, 66^\circ, 114^\circ$ ב. $x = 35^\circ$; $40^\circ, 140^\circ, 75^\circ, 105^\circ$
- (45) 8 ס"מ.
- (46) שאלת הוכחה.
- (47) א. 25 ס"מ. ב. שאלת הוכחה.
- (48) שאלת הוכחה.
- (49) שאלת הוכחה.
- (50) א. 15 ס"מ, 30 ס"מ. ב. שאלת הוכחה.
- (51) $90^\circ, 90^\circ, 60^\circ, 120^\circ$
- (52) שאלת הוכחה.
- (53) שאלת הוכחה.
- (54) שאלת הוכחה.
- (55) א. ניתן להוכיח את טענות: i, iii. ב. שאלת הוכחה.
- ג. $P_{ABLK} = 16\sqrt{5} + 24\sqrt{2} \approx 69.71$ ס"מ
- (56) שאלת הוכחה.
- (57) שאלת הוכחה.
- (58) שאלת הוכחה.
- (59) 22 ס"מ ו-12 ס"מ.
- (60) 14 ס"מ.
- (61) א. שאלת הוכחה. ב. $NO = 6$ ס"מ, $KN = EO = 7$ ס"מ
- ג. $DC = 16$ ס"מ, $AB = 10$ ס"מ
- (62) 6 ס"מ.
- (63) 8 ס"מ, $AB = 18$ ס"מ, $DC = 10$ ס"מ, $DK = 10$ ס"מ.
- (64) שאלת הוכחה.

הדלתון:

סיכום כללי:



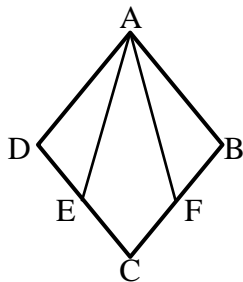
הגדרה:

דלתון הוא מרובע שבו שני זוגות של צלעות סמוכות שוות. (מסקנה: דלתון הוא מרובע שניתן לפרק לשני משולשים שווים שוקיים בעלי בסיס משותף).

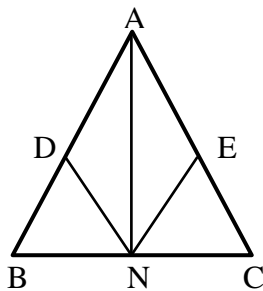
תכונות האלכסונים בדלתון:

- האלכסון הראשי בדלתון חוצה את זוויות הראש, חוצה את האלכסון המשני ומאונך לו.
- האלכסון הראשי אינו בהכרח גדול מהאלכסון המשני.
- היקף דלתון = סכום הצלעות, שטח דלתון = $(\text{אלכסון} \cdot \text{אלכסון}) / 2$.

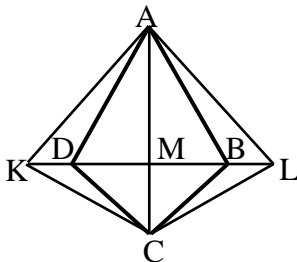
שאלות:



65 נתון מעוין ABCD. הנקודות E ו-F נמצאות על הצלעות DC ב-BC בהתאמה כך שהמרובע AFCE הוא דלתון. הוכח: $\angle DAE = \angle FAB$.



66 במשולש שווה שוקיים ABC ($AB = AC$) מקצים נקודות D ו-E על השוקיים. נתון כי: $AD = AE$. הנקודה N היא אמצע BC. הוכח כי ADNE הוא דלתון.



67 בדלתון ABCD האריכו את האלכסון המשני משני צדיו כמתואר בשרטוט כך שמתקיים: $KD = BL$. הוכח: המרובע ALCK הוא דלתון.

תשובות סופיות:

65) שאלת הוכחה.

66) שאלת הוכחה.

67) שאלת הוכחה.

סיכום משפחת המרובעים:

להלן דיאגרמה מסכמת של כל משפחת המרובעים ותכונותיהם:

