

סטטיסטיקה הסקית

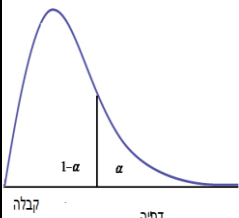
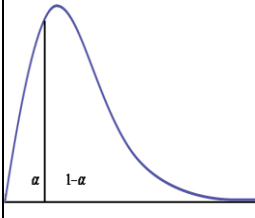
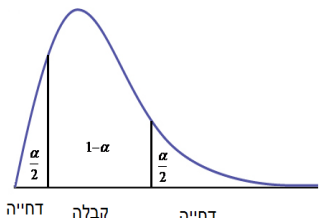
פרק 17 - בדיקת השערות על שוניות

תוכן העניינים

1. בדיקת השערות על שתי שוניות.....1

בדיקת השערות על שתי שוניות:

רקע:

$H_0: \frac{\sigma_1^2}{\sigma_2^2} = 1$ $H_1: \frac{\sigma_1^2}{\sigma_2^2} > 1$	$H_0: \frac{\sigma_1^2}{\sigma_2^2} = 1$ $H_1: \frac{\sigma_1^2}{\sigma_2^2} < 1$	$H_0: \frac{\sigma_1^2}{\sigma_2^2} = 1$ $H_1: \frac{\sigma_1^2}{\sigma_2^2} \neq 1$	השערת האפס: השערה אלטרנטיבית:
$X_1, X_2 \sim N$.2		1. מדגמים בלתי תלויים	תנאים:
 $F \geq f_{1-\alpha}^{(n_1-1, n_2-1)}$	 $F \leq \frac{1}{f_{1-\alpha}^{(n_2-1, n_1-1)}}$	 או $F \geq f_{1-\alpha/2}^{(n_1-1, n_2-1)}$ $F \leq \frac{1}{f_{1-\alpha/2}^{(n_2-1, n_1-1)}}$	נדחה את השערת האפס אם:

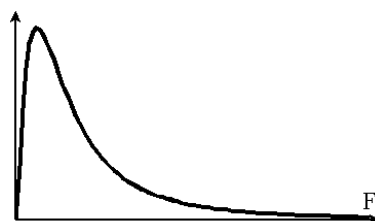
סטטיסטי המבחן: $F = \frac{S_1^2}{S_2^2}$

התפלגות F:

אם $X_1 \sim N(\mu_1, \sigma^2)$ ו- $X_2 \sim N(\mu_2, \sigma^2)$ אזי: $\frac{S_1^2}{S_2^2} \sim F(n_1-1, n_2-1)$

התפלגות F הינה התפלגות אסימטרית חיובית התלויה בדרגות חופש של המונה ושל המכנה.

כמו כן בהתפלגות F מתקיימת התכונה הבאה: $F_\alpha(n_1-1, n_2-1) = \frac{1}{F_{1-\alpha}(n_2-1, n_1-1)}$



$df_1 = n_1 - 1$

$df_2 = n_2 - 1$

דוגמה (פתרון בהקלטה) :

מעוניינים להשוות בין נשים וגברים מבחינת השונות בזמנים שלהם לבצע משימה מסוימת. במדגם של 10 גברים התקבלו התוצאות הבאות לגבי זמני

$$\sum (y_i - \bar{y})^2 = 204 \quad \cdot$$

$$\sum (x_i - \bar{x})^2 = 200 \quad \cdot$$

במדגם של 13 נשים התקבלו התוצאות הבאות : 2% האם קיים הבדל בין השונות? מה יש להניח?

α = 0.05		טבלת ערכים קריטיים לפי התפלגות F															
ד"ח מנהל"ח מנחה	1	2	3	4	5	6	7	8	9	10	12	16	20	24	60	120	∞
1	161.45	199.50	215.71	224.58	230.16	233.99	236.77	238.88	240.54	241.88	243.91	246.46	248.01	249.05	252.20	253.25	254.31
2	18.51	19.00	19.16	19.25	19.30	19.33	19.35	19.37	19.38	19.40	19.41	19.43	19.45	19.45	19.48	19.49	19.50
3	10.13	9.55	9.28	9.12	9.01	8.94	8.89	8.85	8.81	8.79	8.74	8.69	8.66	8.64	8.57	8.55	8.53
4	7.71	6.94	6.59	6.39	6.26	6.16	6.09	6.04	6.00	5.96	5.91	5.84	5.80	5.77	5.69	5.66	5.63
5	6.61	5.79	5.41	5.19	5.05	4.95	4.88	4.82	4.77	4.74	4.68	4.60	4.56	4.53	4.43	4.40	4.37
6	5.99	5.14	4.76	4.53	4.39	4.28	4.21	4.15	4.10	4.06	4.00	3.92	3.87	3.84	3.74	3.70	3.67
7	5.59	4.74	4.35	4.12	3.97	3.87	3.79	3.73	3.68	3.64	3.57	3.49	3.44	3.41	3.30	3.27	3.23
8	5.32	4.46	4.07	3.84	3.69	3.58	3.50	3.44	3.39	3.35	3.28	3.20	3.15	3.12	3.01	2.97	2.93
9	5.12	4.26	3.86	3.63	3.48	3.37	3.29	3.23	3.18	3.14	3.07	2.99	2.94	2.90	2.79	2.75	2.71
10	4.96	4.10	3.71	3.48	3.33	3.22	3.14	3.07	3.02	2.98	2.91	2.83	2.77	2.74	2.62	2.58	2.54
11	4.84	3.98	3.59	3.36	3.20	3.09	3.01	2.95	2.90	2.85	2.79	2.70	2.65	2.61	2.49	2.45	2.40
12	4.75	3.89	3.49	3.26	3.11	3.00	2.91	2.85	2.80	2.75	2.69	2.60	2.54	2.51	2.38	2.34	2.30
13	4.67	3.81	3.41	3.18	3.03	2.92	2.83	2.77	2.71	2.67	2.60	2.51	2.46	2.42	2.30	2.25	2.21
14	4.60	3.74	3.34	3.11	2.96	2.85	2.76	2.70	2.65	2.60	2.53	2.44	2.39	2.35	2.22	2.18	2.13
15	4.54	3.68	3.29	3.06	2.90	2.79	2.71	2.64	2.59	2.54	2.48	2.38	2.33	2.29	2.16	2.11	2.07
16	4.49	3.63	3.24	3.01	2.85	2.74	2.66	2.59	2.54	2.49	2.42	2.33	2.28	2.24	2.11	2.06	2.01
17	4.45	3.59	3.20	2.96	2.81	2.70	2.61	2.55	2.49	2.45	2.38	2.29	2.23	2.19	2.06	2.01	1.96
18	4.41	3.55	3.16	2.93	2.77	2.66	2.58	2.51	2.46	2.41	2.34	2.25	2.19	2.15	2.02	1.97	1.92
19	4.38	3.52	3.13	2.90	2.74	2.63	2.54	2.48	2.42	2.38	2.31	2.21	2.16	2.11	1.98	1.93	1.88
20	4.35	3.49	3.10	2.87	2.71	2.60	2.51	2.45	2.39	2.35	2.28	2.18	2.12	2.08	1.95	1.90	1.84
21	4.32	3.47	3.07	2.84	2.68	2.57	2.49	2.42	2.37	2.32	2.25	2.16	2.10	2.05	1.92	1.87	1.81
22	4.30	3.44	3.05	2.82	2.66	2.55	2.46	2.40	2.34	2.30	2.23	2.13	2.07	2.03	1.89	1.84	1.78
23	4.28	3.42	3.03	2.80	2.64	2.53	2.44	2.37	2.32	2.27	2.20	2.11	2.05	2.01	1.86	1.81	1.76
24	4.26	3.40	3.01	2.78	2.62	2.51	2.42	2.36	2.30	2.25	2.18	2.09	2.03	1.98	1.84	1.79	1.73
25	4.24	3.39	2.99	2.76	2.60	2.49	2.40	2.34	2.28	2.24	2.16	2.07	2.01	1.96	1.82	1.77	1.71
26	4.23	3.37	2.98	2.74	2.59	2.47	2.39	2.32	2.27	2.22	2.15	2.05	1.99	1.95	1.80	1.75	1.69
27	4.21	3.35	2.96	2.73	2.57	2.46	2.37	2.31	2.25	2.20	2.13	2.04	1.97	1.93	1.79	1.73	1.67
28	4.20	3.34	2.95	2.71	2.56	2.45	2.36	2.29	2.24	2.19	2.12	2.02	1.96	1.91	1.77	1.71	1.65
29	4.18	3.33	2.93	2.70	2.55	2.43	2.35	2.28	2.22	2.18	2.10	2.01	1.94	1.90	1.75	1.70	1.64
30	4.17	3.32	2.92	2.69	2.53	2.42	2.33	2.27	2.21	2.16	2.09	1.99	1.93	1.89	1.74	1.68	1.62
40	4.08	3.23	2.84	2.61	2.45	2.34	2.25	2.18	2.12	2.08	2.00	1.90	1.84	1.79	1.64	1.58	1.51
50	4.03	3.18	2.79	2.56	2.40	2.29	2.20	2.13	2.07	2.03	1.95	1.85	1.78	1.74	1.58	1.51	1.44
60	4.00	3.15	2.76	2.53	2.37	2.25	2.17	2.10	2.04	1.99	1.92	1.82	1.75	1.70	1.53	1.47	1.39
90	3.95	3.10	2.71	2.47	2.32	2.20	2.11	2.04	1.99	1.94	1.86	1.76	1.69	1.64	1.46	1.39	1.30
120	3.92	3.07	2.68	2.45	2.29	2.18	2.09	2.02	1.96	1.91	1.83	1.73	1.66	1.61	1.43	1.35	1.25
∞	3.84	3.00	2.60	2.37	2.21	2.10	2.01	1.94	1.88	1.83	1.75	1.64	1.57	1.52	1.32	1.22	1.00

טבלת ערכים קריטיים לפי התפלגות F $\alpha = 0.01$ ראה איור מסה.																	
ד"ח מונה/ד"ח מכנה	1	2	3	4	5	6	7	8	9	10	12	16	20	24	60	120	∞
1	4052.18	4999.50	5403.35	5624.58	5763.65	5858.99	5928.36	5981.07	6022.47	6055.85	6106.32	6170.10	6208.73	6234.63	6313.03	6339.39	6365.86
2	98.50	99.00	99.17	99.25	99.30	99.33	99.36	99.37	99.39	99.40	99.42	99.44	99.45	99.46	99.48	99.49	99.50
3	34.12	30.82	29.46	28.71	28.24	27.91	27.67	27.49	27.35	27.23	27.05	26.83	26.69	26.60	26.32	26.22	26.13
4	21.20	18.00	16.69	15.98	15.52	15.21	14.98	14.80	14.66	14.55	14.37	14.15	14.02	13.93	13.65	13.56	13.46
5	16.26	13.27	12.06	11.39	10.97	10.67	10.46	10.29	10.16	10.05	9.89	9.68	9.55	9.47	9.20	9.11	9.02
6	13.75	10.92	9.78	9.15	8.75	8.47	8.26	8.10	7.98	7.87	7.72	7.52	7.40	7.31	7.06	6.97	6.88
7	12.25	9.55	8.45	7.85	7.46	7.19	6.99	6.84	6.72	6.62	6.47	6.28	6.16	6.07	5.82	5.74	5.65
8	11.26	8.65	7.59	7.01	6.63	6.37	6.18	6.03	5.91	5.81	5.67	5.48	5.36	5.28	5.03	4.95	4.86
9	10.56	8.02	6.99	6.42	6.06	5.80	5.61	5.47	5.35	5.26	5.11	4.92	4.81	4.73	4.48	4.40	4.31
10	10.04	7.56	6.55	5.99	5.64	5.39	5.20	5.06	4.94	4.85	4.71	4.52	4.41	4.33	4.08	4.00	3.91
11	9.65	7.21	6.22	5.67	5.32	5.07	4.89	4.74	4.63	4.54	4.40	4.21	4.10	4.02	3.78	3.69	3.60
12	9.33	6.93	5.95	5.41	5.06	4.82	4.64	4.50	4.39	4.30	4.16	3.97	3.86	3.78	3.54	3.45	3.36
13	9.07	6.70	5.74	5.21	4.86	4.62	4.44	4.30	4.19	4.10	3.96	3.78	3.66	3.59	3.34	3.25	3.17
14	8.86	6.51	5.56	5.04	4.69	4.46	4.28	4.14	4.03	3.94	3.80	3.62	3.51	3.43	3.18	3.09	3.00
15	8.68	6.36	5.42	4.89	4.56	4.32	4.14	4.00	3.89	3.80	3.67	3.49	3.37	3.29	3.05	2.96	2.87
16	8.53	6.23	5.29	4.77	4.44	4.20	4.03	3.89	3.78	3.69	3.55	3.37	3.26	3.18	2.93	2.84	2.75
17	8.40	6.11	5.18	4.67	4.34	4.10	3.93	3.79	3.68	3.59	3.46	3.27	3.16	3.08	2.83	2.75	2.65
18	8.29	6.01	5.09	4.58	4.25	4.01	3.84	3.71	3.60	3.51	3.37	3.19	3.08	3.00	2.75	2.66	2.57
19	8.18	5.93	5.01	4.50	4.17	3.94	3.77	3.63	3.52	3.43	3.30	3.12	3.00	2.92	2.67	2.58	2.49
20	8.10	5.85	4.94	4.43	4.10	3.87	3.70	3.56	3.46	3.37	3.23	3.05	2.94	2.86	2.61	2.52	2.42
21	8.02	5.78	4.87	4.37	4.04	3.81	3.64	3.51	3.40	3.31	3.17	2.99	2.88	2.80	2.55	2.46	2.36
22	7.95	5.72	4.82	4.31	3.99	3.76	3.59	3.45	3.35	3.26	3.12	2.94	2.83	2.75	2.50	2.40	2.31
23	7.88	5.66	4.76	4.26	3.94	3.71	3.54	3.41	3.30	3.21	3.07	2.89	2.78	2.70	2.45	2.35	2.26
24	7.82	5.61	4.72	4.22	3.90	3.67	3.50	3.36	3.26	3.17	3.03	2.85	2.74	2.66	2.40	2.31	2.21
25	7.77	5.57	4.68	4.18	3.85	3.63	3.46	3.32	3.22	3.13	2.99	2.81	2.70	2.62	2.36	2.27	2.17
26	7.72	5.53	4.64	4.14	3.82	3.59	3.42	3.29	3.18	3.09	2.96	2.78	2.66	2.58	2.33	2.23	2.13
27	7.68	5.49	4.60	4.11	3.78	3.56	3.39	3.26	3.15	3.06	2.93	2.75	2.63	2.55	2.29	2.20	2.10
28	7.64	5.45	4.57	4.07	3.75	3.53	3.36	3.23	3.12	3.03	2.90	2.72	2.60	2.52	2.26	2.17	2.06
29	7.60	5.42	4.54	4.04	3.73	3.50	3.33	3.20	3.09	3.00	2.87	2.69	2.57	2.49	2.23	2.14	2.03
30	7.56	5.39	4.51	4.02	3.70	3.47	3.30	3.17	3.07	2.98	2.84	2.66	2.55	2.47	2.21	2.11	2.01
40	7.31	5.18	4.31	3.83	3.51	3.29	3.12	2.99	2.89	2.80	2.66	2.48	2.37	2.29	2.02	1.92	1.80
50	7.17	5.06	4.20	3.72	3.41	3.19	3.02	2.89	2.78	2.70	2.56	2.38	2.27	2.18	1.91	1.80	1.68
60	7.08	4.98	4.13	3.65	3.34	3.12	2.95	2.82	2.72	2.63	2.50	2.31	2.20	2.12	1.84	1.73	1.60
90	6.93	4.85	4.01	3.53	3.23	3.01	2.84	2.72	2.61	2.52	2.39	2.21	2.09	2.00	1.72	1.60	1.46
120	6.85	4.79	3.95	3.48	3.17	2.96	2.79	2.66	2.56	2.47	2.34	2.15	2.03	1.95	1.66	1.53	1.38
∞	6.63	4.61	3.78	3.32	3.02	2.80	2.64	2.51	2.41	2.32	2.18	2.00	1.88	1.79	1.47	1.32	1.00

שאלות:

- (1) להלן נתונים על שטחי דירות במ"ר עבור דירות חדשות שנבנו בשנת 2012 ובשנת 2013:

120	94	90	130	95	112	120	2012
	69	74	105	91	82	100	2013

- א. בדקו ברמת מובהקות של 10% את ההשערה ששוניות שטחי הדירות החדשות בשנת 2012 ובשנת 2013 שוות. מה הן ההנחות הדרושות לביצוע הבדיקה?
 ב. האם וכיצד הייתה משתנה המסקנה מהסעיף הקודם אם מסתבר שחלה טעות ברישום ויש להפחית 10 מ"ר מכל הדירות שמופיעות במדגם?

- (2) בתחום הבינוי משתמשים בשני סוגי מתכות: מתכת A ומתכת B. מחקר מעוניין לבדוק האם קיים הבדל בין שני סוגי המתכות מבחינת החוזק שלהן. דגמו מספר

B	A	סוג המתכת
10	8	n
30	16	$\sum X_i$
198	60	$\sum X_i^2$

- יחידות מתכת מכל סוג והתקבלו התוצאות הבאות:
 יש להניח שרמת החוזק של המתכות מתפלגת נורמאלית.
 א. האם קיים הבדל בין שוניות החוזק של מתכות?
 ב. האם קיים הבדל בין תוחלות החוזק של מתכות?
 בכל סעיף רמת מובהקות של 10%.

תשובות סופיות:

- (1) א. לא נדחה את H_0 . ב. מסקנה לא תשתנה.
 (2) א. לא נדחה את H_0 . ב. לא נדחה את H_0 .