

הסקה סטטיסטית 30204

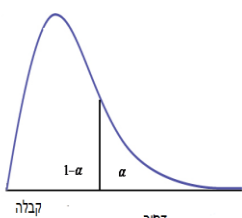
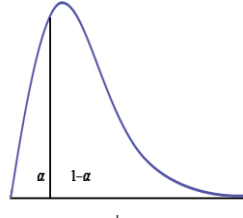
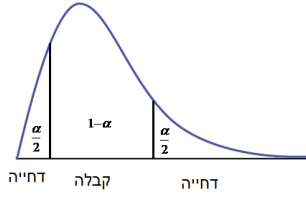
פרק 18 - בדיקת השערות על שוניות (יחידה 11)

תוכן העניינים

1. שונות וסטיית תקן.....1
2. שתי שוניות.....6

שונות וסטיית תקן:

רקע:

השערת האפס : השערה אלטרנטיבית:	$H_0: \sigma^2 = \sigma_0^2$ $H_1: \sigma^2 < \sigma_0^2$	$H_0: \sigma^2 = \sigma_0^2$ $H_1: \sigma^2 > \sigma_0^2$	$H_0: \sigma^2 = \sigma_0^2$ $H_1: \sigma^2 \neq \sigma_0^2$
$X \sim N$			
 <p style="text-align: center;">$\chi^2 > \chi_{\alpha}^{2(n-1)}$</p>	 <p style="text-align: center;">$\chi^2 < \chi_{1-\alpha}^{2(n-1)}$</p>	 <p style="text-align: center;">או $\chi^2 < \chi_{1-\frac{\alpha}{2}}^{2(n-1)}$ או $\chi^2 > \chi_{\frac{\alpha}{2}}^{2(n-1)}$</p>	<p style="text-align: center;">נדחה את השערת האפס אם:</p>

$$\chi^2 = \frac{(n-1)\hat{S}^2}{\sigma_0^2} : \text{סטטיסטי המבחן}$$

התפלגות חי בריבוע:

$$\frac{(n-1)\hat{S}^2}{\sigma_0^2} \sim \chi^{2(n-1)} : \text{אם } X_i \sim N(\mu, \sigma^2) \text{ והפרמטר } \mu \text{ אינו ידוע מתקיים ש:}$$

התפלגות זו היא התפלגות אסימטרית חיובית המתחילה מהערך אפס וערכיה שואפים לאינסוף. התפלגות זו תלויה בדרגות החופש.

אם μ אינו ידוע אז: $d.f = n - 1$

דוגמה:

ציוני IQ לפי סטנדרטים אמריקאים מתפלגים נורמאלית עם $\sigma = 15$. מעוניינים לבדוק האם שונות הציונים של נבחנים ישראלים שונה מאמריקה. במדגם של 20 ישראלים התקבל:

$$\sum_{i=1}^{20} (x_i - \bar{x})^2 = 3420 \quad \text{מה המסקנה ברמת מובהקות של 5\%?}$$

פתרון:

האוכלוסייה: נבחנים ישראלים במבחן I.Q

המשתנה: $X =$ ציון I.Q

פרמטר: σ^2

$$H_0: \sigma^2 = 15^2 = 225$$

$$H_1: \sigma^2 \neq 225$$

השערות:

הנחה: $X \sim N$

כלל הכרעה: $d.f = n - 1 = 20 - 1 = 19$

נדחה את H_0 אם $X^2 > 32.9$ או $X^2 < 8.91$

תוצאות המדגם: $n = 20$

$$\sum (X_i - \bar{X})^2 = 3420$$

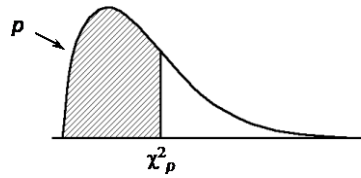
$$S^2 = \frac{\sum (X_i - \bar{X})^2}{n-1} = \frac{3420}{20-1} = 180$$

$$\chi^2 = \frac{(n-1)S^2}{\sigma_0^2} = \frac{19 \cdot 180}{225} = 15.2$$

מסקנה: לא נדחה את H_0 , לא נסיק ששונות הציונים של נבחנים ישראלים במבחן

I.Q שונה מזו של אמריקאים. ($\alpha = 5\%$)

טבלת התפלגות חי-בריבוע – ערכי החלוקה χ^2_p



df	p												
	.005	.01	.025	.05	.10	.25	.50	.75	.90	.95	.975	.99	.995
1	0.004393	0.005157	0.005982	0.006393	0.0158	0.102	0.455	1.32	2.71	3.84	5.02	6.63	7.88
2	0.0100	0.0201	0.0506	0.103	0.211	0.575	1.39	2.77	4.61	5.99	7.38	9.21	10.6
3	0.0717	0.115	0.216	0.352	0.584	1.21	2.37	4.11	6.25	7.81	9.35	11.3	12.8
4	0.207	0.297	0.484	0.711	1.06	1.92	3.36	5.39	7.78	9.49	11.1	13.3	14.9
5	0.412	0.554	0.831	1.15	1.61	2.67	4.35	6.63	9.24	11.1	12.8	15.1	16.7
6	0.676	0.872	1.24	1.64	2.20	3.45	5.35	7.84	10.6	12.6	14.4	16.8	18.5
7	0.989	1.24	1.69	2.17	2.83	4.25	6.35	9.04	12.0	14.1	16.0	18.5	20.3
8	1.34	1.65	2.18	2.73	3.49	5.07	7.34	10.2	13.4	15.5	17.5	20.1	22.0
9	1.73	2.09	2.70	3.33	4.17	5.90	8.34	11.4	14.7	16.9	19.0	21.7	23.6
10	2.16	2.56	3.25	3.94	4.87	6.74	9.34	12.5	16.0	18.3	20.5	23.2	25.2
11	2.60	3.05	3.82	4.57	5.58	7.58	10.3	13.7	17.3	19.7	21.9	24.7	26.8
12	3.07	3.57	4.40	5.23	6.30	8.44	11.3	14.8	18.5	21.0	23.3	26.2	28.3
13	3.57	4.11	5.01	5.89	7.04	9.30	12.3	16.0	19.8	22.4	24.7	27.7	29.8
14	4.07	4.66	5.63	6.57	7.79	10.2	13.3	17.1	21.1	23.7	26.1	29.1	31.3
15	4.60	5.23	6.26	7.26	8.55	11.0	14.3	18.2	22.3	25.0	27.5	30.6	32.8
16	5.14	5.81	6.91	7.96	9.31	11.9	15.3	19.4	23.5	26.3	28.8	32.0	34.3
17	5.70	6.41	7.56	8.67	10.1	12.8	16.3	20.5	24.8	27.6	30.2	33.4	35.7
18	6.26	7.01	8.23	9.39	10.9	13.7	17.3	21.6	26.0	28.9	31.5	34.8	37.2
19	6.84	7.63	8.91	10.1	11.7	14.6	18.3	22.7	27.2	30.1	32.9	36.2	38.6
20	7.43	8.26	9.59	10.9	12.4	15.5	19.3	23.8	28.4	31.4	34.2	37.6	40.0
21	8.03	8.90	10.3	11.6	13.2	16.3	20.3	24.9	29.6	32.7	35.5	38.9	41.4
22	8.64	9.54	11.0	12.3	14.0	17.2	21.3	26.0	30.8	33.9	36.8	40.3	42.8
23	9.26	10.2	11.7	13.1	14.8	18.1	22.3	27.1	32.0	35.2	38.1	41.6	44.2
24	9.89	10.9	12.4	13.8	15.7	19.0	23.3	28.2	33.2	36.4	39.4	43.0	45.6
25	10.5	11.5	13.1	14.6	16.5	19.9	24.3	29.3	34.4	37.7	40.6	44.3	46.9
26	11.2	12.2	13.8	15.4	17.3	20.8	25.3	30.4	35.6	38.9	41.9	45.6	48.3
27	11.8	12.9	14.6	16.2	18.1	21.7	26.3	31.5	36.7	40.1	43.2	47.0	49.6
28	12.5	13.6	15.3	16.9	18.9	22.7	27.3	32.6	37.9	41.3	44.5	48.3	51.0
29	13.1	14.3	16.0	17.7	19.8	23.6	28.3	33.7	39.1	42.6	45.7	49.6	52.3
30	13.8	15.0	16.8	18.5	20.6	24.5	29.3	34.8	40.3	43.8	47.0	50.9	53.7

שאלות:

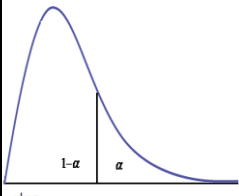
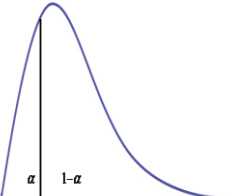
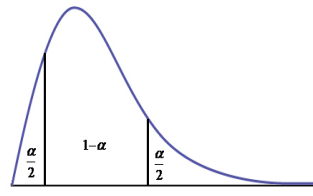
- (1) חברה אורזת סוכר במשקל עם סטיית תקן 20 גרם. משקל הסוכר באריזה מתפלג נורמאלית. החברה החליפה את מכונות האריזה במטרה לדייק יותר במשקל הנארז. (רוצים שסטיית התקן תהיה קטנה יותר).
 לצורך בדיקה דגמו 5 אריזות סוכר ולהלן משקלן (בגרם):
 1008, 1024, 1005, 996, 997.
 מה המסקנה ברמת מובהקות של 5%?
- (2) זמן ההחלמה ממחלה מסוימת כאשר משתמשים בטיפול מסוים מתפלג נורמלית עם סטיית תקן של 80 שעות. תרופה חדשה נוסתה על 5 חולים. זמני ההחלמה שלהם בשעות היו: 110, 90, 72, 50, 38.
 א. ברמת מובהקות של 5% בדקו האם סטיית התקן של זמן החלמה של התרופה החדשה נמוכה מהתרופה המקורית?
 ב. האם ניתן לדעת מה תהיה התשובה לסעיף א', אם נגדיל את רמת המובהקות?
 ג. האם ניתן לדעת מה תהיה התשובה לסעיף א אם נקטין את רמת המובהקות?
 ד. האם ניתן לדעת מה תהיה התשובה לסעיף א אם נוסיף תצפית שערכה 70?
- (3) הגובה של אוכלוסייה מסוימת נחשב כמתפלג נורמלית עם ממוצע של 174 ס"מ וסטיית תקן 12. במדגם של 20 אנשים מהאוכלוסייה התקבל ממוצע 171 וסטיית תקן מדגמית 23.
 א. בדקו ברמת מובהקות של 5% האם חל שינוי בשונות הגבהים באוכלוסייה.
 ב. בדקו ברמת מובהקות של 5%, האם חל שינוי בתוחלת הגבהים באוכלוסייה, בבחירת המבחן המתאים הסתמך על המסקנה מסעיף א'.
- (4) השערות המחקר הן: $H_1: \sigma < 2$, $H_0: \sigma = 2$.
 במדגם של 21 תצפיות התקבלה סטיית תקן 1.143.
 תן הערכה למובהקות התוצאה.

תשובות סופיות:

- (1) לא נדחה H_0 .
- (2) א. נדחה את H_0 .
ד. לא תשתנה.
- (3) א. נדחה את H_0 .
ב. לא נדחה את H_0 .
- (4) $0 \leq P_v \leq 0.005$
- ג. לא ניתן לדעת.
ב. לא תשתנה.

בדיקת השערות על שתי שוניות:

רקע:

השערת האפס : השערה אלטרנטיבית :	$H_0 : \frac{\sigma_1^2}{\sigma_2^2} = 1$	$H_0 : \frac{\sigma_1^2}{\sigma_2^2} = 1$	$H_0 : \frac{\sigma_1^2}{\sigma_2^2} = 1$	השערת האפס : השערה אלטרנטיבית :
	$H_1 : \frac{\sigma_1^2}{\sigma_2^2} > 1$	$H_1 : \frac{\sigma_1^2}{\sigma_2^2} < 1$	$H_1 : \frac{\sigma_1^2}{\sigma_2^2} \neq 1$	
1. מדגמים בלתי תלויים 2. $X_1, X_2 \sim N$				תנאים :
			נדחה את השערת האפס אם :	
$F \geq f_{1-\alpha}^{(n_1-1, n_2-1)}$	$F \leq \frac{1}{f_{1-\alpha}^{(n_2-1, n_1-1)}}$	$F \geq f_{1-\alpha/2}^{(n_1-1, n_2-1)}$ או $F \leq \frac{1}{f_{1-\alpha/2}^{(n_2-1, n_1-1)}}$		
קבלה	דחייה	קבלה		

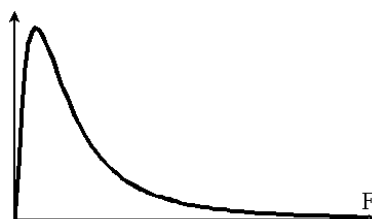
$$F = \frac{S_1^2}{S_2^2} : \text{סטטיסטי המבחן}$$

התפלגות F:

$$\frac{S_1^2}{S_2^2} \sim F(n_1 - 1, n_2 - 1) \text{ אם } X_1 \sim N(\mu_1, \sigma^2) \text{ ו- } X_2 \sim N(\mu_2, \sigma^2) \text{ אזי}$$

התפלגות F הינה התפלגות אסימטרית חיובית התלוייה בדרגות חופש של המונה ושל המכנה.

$$F_{1-\alpha}(n_1 - 1, n_2 - 1) = \frac{1}{F_{1-\alpha}^{(n_2-1, n_1-1)}} : \text{כמו כן בהתפלגות F מתקיימת התכונה הבאה}$$



$$df_1 = n_1 - 1$$

$$df_2 = n_2 - 1$$

דוגמה:

מעוניינים להשוות בין נשים וגברים מבחינת השונות בזמנים שלהם לבצע משימה מסוימת. במדגם של 10 גברים התקבלו התוצאות הבאות לגבי זמני ביצוע המשימה: $\sum (y_i - \bar{y})^2 = 204$.

במדגם של 13 נשים התקבלו התוצאות הבאות: $\sum (x_i - \bar{x})^2 = 200$. בדקו ברמת מובהקות של 2% האם קיים הבדל בין השונות? מה יש להניח?

פתרון:

האוכלוסיות: נשים מול גברים.

משתנה: $y =$ זמן ביצוע משימה של גבר, $x =$ זמן ביצוע משימה של אישה

$$\frac{\sigma_x^2}{\sigma_y^2} \text{ פרמטר:}$$

$$H_0: \frac{\sigma_x^2}{\sigma_y^2} = 1$$

השערות:

$$H_1: \frac{\sigma_x^2}{\sigma_y^2} \neq 1$$

הנחות: 1. מדגימים ב"ת 2. $x, y \sim N$

כלל הכרעה:

$$\alpha = 2\%$$

$$n_1 = 13, d.f_1 = n_1 - 1 = 12$$

$$n_2 = 10, d.f_2 = n_2 - 1 = 9$$

נדחה את H_0 אם $F > 5.11$ או $F < 0.23$

$$S_y^2 = \frac{204}{10-1} = 22\frac{2}{3} \text{ תוצאות המדגם:}$$

$$S_x^2 = \frac{200}{13-1} = 16\frac{2}{3}$$

$$F = \frac{S_1^2}{S_2^2} = \frac{16\frac{2}{3}}{22\frac{2}{3}} \text{ סטטיסטי המבחן:}$$

מסקנה: ברמת מובהקות של 2% נקבל את H_0 .

לא קיים הבדל מובהק בין גברים לנשים מבחינת השונות שלהם.

$\alpha = 0.05$																	
טבלת ערכים קריטיים לפי התפלגות F																	
ד"ח מנהל"ח מטה	1	2	3	4	5	6	7	8	9	10	12	16	20	24	60	120	∞
1	161.45	199.50	215.71	224.58	230.16	233.99	236.77	238.88	240.54	241.88	243.91	246.46	248.01	249.05	252.20	253.25	254.31
2	18.51	19.00	19.16	19.25	19.30	19.33	19.35	19.37	19.38	19.40	19.41	19.43	19.45	19.45	19.48	19.49	19.50
3	10.13	9.55	9.28	9.12	9.01	8.94	8.89	8.85	8.81	8.79	8.74	8.69	8.66	8.64	8.57	8.55	8.53
4	7.71	6.94	6.59	6.39	6.26	6.16	6.09	6.04	6.00	5.96	5.91	5.84	5.80	5.77	5.69	5.66	5.63
5	6.61	5.79	5.41	5.19	5.05	4.95	4.88	4.82	4.77	4.74	4.68	4.60	4.56	4.53	4.43	4.40	4.37
6	5.99	5.14	4.76	4.53	4.39	4.28	4.21	4.15	4.10	4.06	4.00	3.92	3.87	3.84	3.74	3.70	3.67
7	5.59	4.74	4.35	4.12	3.97	3.87	3.79	3.73	3.68	3.64	3.57	3.49	3.44	3.41	3.30	3.27	3.23
8	5.32	4.46	4.07	3.84	3.69	3.58	3.50	3.44	3.39	3.35	3.28	3.20	3.15	3.12	3.01	2.97	2.93
9	5.12	4.26	3.86	3.63	3.48	3.37	3.29	3.23	3.18	3.14	3.07	2.99	2.94	2.90	2.79	2.75	2.71
10	4.96	4.10	3.71	3.48	3.33	3.22	3.14	3.07	3.02	2.98	2.91	2.83	2.77	2.74	2.62	2.58	2.54
11	4.84	3.98	3.59	3.36	3.20	3.09	3.01	2.95	2.90	2.85	2.79	2.70	2.65	2.61	2.49	2.45	2.40
12	4.75	3.89	3.49	3.26	3.11	3.00	2.91	2.85	2.80	2.75	2.69	2.60	2.54	2.51	2.38	2.34	2.30
13	4.67	3.81	3.41	3.18	3.03	2.92	2.83	2.77	2.71	2.67	2.60	2.51	2.46	2.42	2.30	2.25	2.21
14	4.60	3.74	3.34	3.11	2.96	2.85	2.76	2.70	2.65	2.60	2.53	2.44	2.39	2.35	2.22	2.18	2.13
15	4.54	3.68	3.29	3.06	2.90	2.79	2.71	2.64	2.59	2.54	2.48	2.38	2.33	2.29	2.16	2.11	2.07
16	4.49	3.63	3.24	3.01	2.85	2.74	2.66	2.59	2.54	2.49	2.42	2.33	2.28	2.24	2.11	2.06	2.01
17	4.45	3.59	3.20	2.96	2.81	2.70	2.61	2.55	2.49	2.45	2.38	2.29	2.23	2.19	2.06	2.01	1.96
18	4.41	3.55	3.16	2.93	2.77	2.66	2.58	2.51	2.46	2.41	2.34	2.25	2.19	2.15	2.02	1.97	1.92
19	4.38	3.52	3.13	2.90	2.74	2.63	2.54	2.48	2.42	2.38	2.31	2.21	2.16	2.11	1.98	1.93	1.88
20	4.35	3.49	3.10	2.87	2.71	2.60	2.51	2.45	2.39	2.35	2.28	2.18	2.12	2.08	1.95	1.90	1.84
21	4.32	3.47	3.07	2.84	2.68	2.57	2.49	2.42	2.37	2.32	2.25	2.16	2.10	2.05	1.92	1.87	1.81
22	4.30	3.44	3.05	2.82	2.66	2.55	2.46	2.40	2.34	2.30	2.23	2.13	2.07	2.03	1.89	1.84	1.78
23	4.28	3.42	3.03	2.80	2.64	2.53	2.44	2.37	2.32	2.27	2.20	2.11	2.05	2.01	1.86	1.81	1.76
24	4.26	3.40	3.01	2.78	2.62	2.51	2.42	2.36	2.30	2.25	2.18	2.09	2.03	1.98	1.84	1.79	1.73
25	4.24	3.39	2.99	2.76	2.60	2.49	2.40	2.34	2.28	2.24	2.16	2.07	2.01	1.96	1.82	1.77	1.71
26	4.23	3.37	2.98	2.74	2.59	2.47	2.39	2.32	2.27	2.22	2.15	2.05	1.99	1.95	1.80	1.75	1.69
27	4.21	3.35	2.96	2.73	2.57	2.46	2.37	2.31	2.25	2.20	2.13	2.04	1.97	1.93	1.79	1.73	1.67
28	4.20	3.34	2.95	2.71	2.56	2.45	2.36	2.29	2.24	2.19	2.12	2.02	1.96	1.91	1.77	1.71	1.65
29	4.18	3.33	2.93	2.70	2.55	2.43	2.35	2.28	2.22	2.18	2.10	2.01	1.94	1.90	1.75	1.70	1.64
30	4.17	3.32	2.92	2.69	2.53	2.42	2.33	2.27	2.21	2.16	2.09	1.99	1.93	1.89	1.74	1.68	1.62
40	4.08	3.23	2.84	2.61	2.45	2.34	2.25	2.18	2.12	2.08	2.00	1.90	1.84	1.79	1.64	1.58	1.51
50	4.03	3.18	2.79	2.56	2.40	2.29	2.20	2.13	2.07	2.03	1.95	1.85	1.78	1.74	1.58	1.51	1.44
60	4.00	3.15	2.76	2.53	2.37	2.25	2.17	2.10	2.04	1.99	1.92	1.82	1.75	1.70	1.53	1.47	1.39
90	3.95	3.10	2.71	2.47	2.32	2.20	2.11	2.04	1.99	1.94	1.86	1.76	1.69	1.64	1.46	1.39	1.30
120	3.92	3.07	2.68	2.45	2.29	2.18	2.09	2.02	1.96	1.91	1.83	1.73	1.66	1.61	1.43	1.35	1.25
∞	3.84	3.00	2.60	2.37	2.21	2.10	2.01	1.94	1.88	1.83	1.75	1.64	1.57	1.52	1.32	1.22	1.00

טבלת ערכים קריטיים לפי התפלגות F $\alpha = 0.01$ ראה איור מטה.																	
ד"ח מונה/ד"ח מכנה	1	2	3	4	5	6	7	8	9	10	12	16	20	24	60	120	∞
1	4052.18	4999.50	5403.35	5624.58	5763.65	5858.99	5928.36	5981.07	6022.47	6055.85	6106.32	6170.10	6208.73	6234.63	6313.03	6339.39	6365.86
2	98.50	99.00	99.17	99.25	99.30	99.33	99.36	99.37	99.39	99.40	99.42	99.44	99.45	99.46	99.48	99.49	99.50
3	34.12	30.82	29.46	28.71	28.24	27.91	27.67	27.49	27.35	27.23	27.05	26.83	26.69	26.60	26.32	26.22	26.13
4	21.20	18.00	16.69	15.98	15.52	15.21	14.98	14.80	14.66	14.55	14.37	14.15	14.02	13.93	13.65	13.56	13.46
5	16.26	13.27	12.06	11.39	10.97	10.67	10.46	10.29	10.16	10.05	9.89	9.68	9.55	9.47	9.20	9.11	9.02
6	13.75	10.92	9.78	9.15	8.75	8.47	8.26	8.10	7.98	7.87	7.72	7.52	7.40	7.31	7.06	6.97	6.88
7	12.25	9.55	8.45	7.85	7.46	7.19	6.99	6.84	6.72	6.62	6.47	6.28	6.16	6.07	5.82	5.74	5.65
8	11.26	8.65	7.59	7.01	6.63	6.37	6.18	6.03	5.91	5.81	5.67	5.48	5.36	5.28	5.03	4.95	4.86
9	10.56	8.02	6.99	6.42	6.06	5.80	5.61	5.47	5.35	5.26	5.11	4.92	4.81	4.73	4.48	4.40	4.31
10	10.04	7.56	6.55	5.99	5.64	5.39	5.20	5.06	4.94	4.85	4.71	4.52	4.41	4.33	4.08	4.00	3.91
11	9.65	7.21	6.22	5.67	5.32	5.07	4.89	4.74	4.63	4.54	4.40	4.21	4.10	4.02	3.78	3.69	3.60
12	9.33	6.93	5.95	5.41	5.06	4.82	4.64	4.50	4.39	4.30	4.16	3.97	3.86	3.78	3.54	3.45	3.36
13	9.07	6.70	5.74	5.21	4.86	4.62	4.44	4.30	4.19	4.10	3.96	3.78	3.66	3.59	3.34	3.25	3.17
14	8.86	6.51	5.56	5.04	4.69	4.46	4.28	4.14	4.03	3.94	3.80	3.62	3.51	3.43	3.18	3.09	3.00
15	8.68	6.36	5.42	4.89	4.56	4.32	4.14	4.00	3.89	3.80	3.67	3.49	3.37	3.29	3.05	2.96	2.87
16	8.53	6.23	5.29	4.77	4.44	4.20	4.03	3.89	3.78	3.69	3.55	3.37	3.26	3.18	2.93	2.84	2.75
17	8.40	6.11	5.18	4.67	4.34	4.10	3.93	3.79	3.68	3.59	3.46	3.27	3.16	3.08	2.83	2.75	2.65
18	8.29	6.01	5.09	4.58	4.25	4.01	3.84	3.71	3.60	3.51	3.37	3.19	3.08	3.00	2.75	2.66	2.57
19	8.18	5.93	5.01	4.50	4.17	3.94	3.77	3.63	3.52	3.43	3.30	3.12	3.00	2.92	2.67	2.58	2.49
20	8.10	5.85	4.94	4.43	4.10	3.87	3.70	3.56	3.46	3.37	3.23	3.05	2.94	2.86	2.61	2.52	2.42
21	8.02	5.78	4.87	4.37	4.04	3.81	3.64	3.51	3.40	3.31	3.17	2.99	2.88	2.80	2.55	2.46	2.36
22	7.95	5.72	4.82	4.31	3.99	3.76	3.59	3.45	3.35	3.26	3.12	2.94	2.83	2.75	2.50	2.40	2.31
23	7.88	5.66	4.76	4.26	3.94	3.71	3.54	3.41	3.30	3.21	3.07	2.89	2.78	2.70	2.45	2.35	2.26
24	7.82	5.61	4.72	4.22	3.90	3.67	3.50	3.36	3.26	3.17	3.03	2.85	2.74	2.66	2.40	2.31	2.21
25	7.77	5.57	4.68	4.18	3.85	3.63	3.46	3.32	3.22	3.13	2.99	2.81	2.70	2.62	2.36	2.27	2.17
26	7.72	5.53	4.64	4.14	3.82	3.59	3.42	3.29	3.18	3.09	2.96	2.78	2.66	2.58	2.33	2.23	2.13
27	7.68	5.49	4.60	4.11	3.78	3.56	3.39	3.26	3.15	3.06	2.93	2.75	2.63	2.55	2.29	2.20	2.10
28	7.64	5.45	4.57	4.07	3.75	3.53	3.36	3.23	3.12	3.03	2.90	2.72	2.60	2.52	2.26	2.17	2.06
29	7.60	5.42	4.54	4.04	3.73	3.50	3.33	3.20	3.09	3.00	2.87	2.69	2.57	2.49	2.23	2.14	2.03
30	7.56	5.39	4.51	4.02	3.70	3.47	3.30	3.17	3.07	2.98	2.84	2.66	2.55	2.47	2.21	2.11	2.01
40	7.31	5.18	4.31	3.83	3.51	3.29	3.12	2.99	2.89	2.80	2.66	2.48	2.37	2.29	2.02	1.92	1.80
50	7.17	5.06	4.20	3.72	3.41	3.19	3.02	2.89	2.78	2.70	2.56	2.38	2.27	2.18	1.91	1.80	1.68
60	7.08	4.98	4.13	3.65	3.34	3.12	2.95	2.82	2.72	2.63	2.50	2.31	2.20	2.12	1.84	1.73	1.60
90	6.93	4.85	4.01	3.53	3.23	3.01	2.84	2.72	2.61	2.52	2.39	2.21	2.09	2.00	1.72	1.60	1.46
120	6.85	4.79	3.95	3.48	3.17	2.96	2.79	2.66	2.56	2.47	2.34	2.15	2.03	1.95	1.66	1.53	1.38
∞	6.63	4.61	3.78	3.32	3.02	2.80	2.64	2.51	2.41	2.32	2.18	2.00	1.88	1.79	1.47	1.32	1.00

שאלות:

(1) להלן נתונים על שטחי דירות במ"ר עבור דירות חדשות שנבנו בשנת 2012 ובשנת 2013:

120	94	90	130	95	112	120	2012
	69	74	105	91	82	100	2013

- א. בדקו ברמת מובהקות של 10% את ההשערה ששוננויות שטחי הדירות החדשות בשנת 2012 ובשנת 2013 שוות. מה הן ההנחות הדרושות לביצוע הבדיקה?
 ב. האם וכיצד הייתה משתנה המסקנה מהסעיף הקודם אם מסתבר שחלה טעות ברישום ויש להפחית 10 מ"ר מכל הדירות שמופיעות במדגם?

(2) בתחום הבינוי משתמשים בשני סוגי מתכות: מתכת A ומתכת B. מחקר מעוניין לבדוק האם קיים הבדל בין שני סוגי המתכות מבחינת החוזק שלהן. דגמו מספר

B	A	סוג המתכת
10	8	n
30	16	$\sum X_i$
198	60	$\sum X_i^2$

- יחידות מתכת מכל סוג והתקבלו התוצאות הבאות:
 יש להניח שרמת החוזק של המתכות מתפלגת נורמאלית.
 א. האם קיים הבדל בין שוננויות החוזק של מתכות?
 ב. האם קיים הבדל בין תוחלות החוזק של מתכות?
 בכל סעיף רמת מובהקות של 10%.

(3) מחקר סוציולוגי מעוניין לחקור את הרגלי הבילויים בקבוצות גיל שונות. ידוע כי

- בקרב האוכלוסייה הבוגרת (מעל 18) ההוצאה החודשית על בילויים מתפלגת נורמאלית עם תוחלת של 500₪ וסטיית תקן של 300₪.
 במדגם שנעשה על סטודנטים בגילאי 21-26 התקבל אומדן חוסר הטיה לשונות ההוצאה החודשית על בילויים 10,000₪. כמות הסטודנטים שנדגמה 16.
 במדגם שנעשה על 11 מבוגרים בשנות השלושים התקבל אומדן חוסר הטיה לשונות ההוצאה החודשית על בילויים 490,000₪.

- א. בדקו ברמת מובהקות של 5% האם שונות ההוצאה על בילויים בקרב סטודנטים בקבוצת גילאי 21-26 נמוכה מהשונות אצל כלל המבוגרים.
 ב. בדקו ברמת מובהקות של 1% האם הפיזור של ההוצאה החודשית לבילויים גדולה יותר בקבוצת גיל ה-30 מאשר בקבוצת גיל 21-26.

תשובות סופיות:

- (1) א. לא נדחה את H_0 .
 ב. מסקנה לא תשתנה.
 (2) א. לא נדחה את H_0 .
 ב. לא נדחה את H_0 .
 (3) א. נדחה את H_0 .
 ב. נדחה את H_0 .