

# קורס מתמטיקה להנדסאי טכנולוגיות מים



## תוכן העניינים

1	מבוא לאלגברה
47	משוואות אלגבריות
69	אי שוויונים אלגבריים
85	חקירת משוואה ממעלה ראשונה
97	חקירת משוואה ממעלה שנייה
111	נוסחאות וייטה
113	חוקי החזקות והשורשים
123	משוואות ואי-שוויונים מעריכיים
133	חוקי הלוגריתמים, משוואות ואי-שוויונים לוגריתמים
149	בעיות גדילה ודעיכה
162	מבוא לגאומטריה של המישור
170	גיאומטריה אוקלידית - משולשים
191	גיאומטריה אוקלידית - מרובעים
215	גיאומטריה אוקלידית - שטחים והיקפים
229	גיאומטריה אוקלידית - המעגל
254	טריגונומטריה במשולש ישר זווית
259	טריגונומטריה במישור
292	גיאומטריה אנליטית - נקודה וישר
317	טריגונומטריה במרחב - התיבה והקובייה
330	טריגונומטריה במרחב - המנסרה
335	טריגונומטריה במרחב - הפירמידה
350	חשבון דיפרנציאלי - נגזרות ומשיקים
365	חשבון דיפרנציאלי - חקירת פונקצית פולינום

## תוכן העניינים

24. חשבון דיפרנציאלי - חקירת פונקצית מנה ושורש ..... 378
25. חשבון דיפרנציאלי - הקשר שבין גרף הפונקציה וגרף הנגזרת ..... (ללא ספר) 378
26. חשבון דיפרנציאלי - חקירת פונקציות טריגונומטריות ..... 412
27. חשבון דיפרנציאלי - פונקציות מעריכיות ..... 430
28. חשבון דיפרנציאלי - פונקציות לוגריתמיות ..... 446
29. חשבון דיפרנציאלי - בעיות קיצון ..... 462
30. חשבון אינטגרלי - האינטגרל הכללי ..... 484
31. חשבון אינטגרלי - האינטגרל המסוים וחישובי שטחים ..... 491
32. חשבון אינטגרלי - פונקציה מעריכית, לוגריתמית וחזקה ..... 519
33. משוואות דיפרנציאליות ליניאריות מסדר ראשון ..... 537

# קורס מתמטיקה להנדסאי טכנולוגיות מים

## פרק 1 - מבוא לאלגברה

### תוכן העניינים

1	מספרים מכוונים	1
5	חזקות ושורשים עם מספרים מכוונים	5
7	סדר פעולות חשבון עם מספרים מכוונים	7
8	שברים פשוטים, עשרוניים ואחוזים	8
14	כפל וחילוק שברים	14
16	חיבור וחסור שברים	16
20	בעיות יסודיות באחוזים	20
22	חזרה על תבניות מספר	22
24	כינוס איברים	24
26	פישוט ביטויים על ידי פתיחת סוגריים	26
28	פישוט ביטויים באמצעות נוסחאות הכפל המקוצר	28
30	פירוק לגורמים של ביטויים אלגברים	30
33	פירוק הטרינום	33
35	שברים אלגברים	35
39	כפל וחילוק של שברים אלגברים	39
41	חיבור וחסור של שברים אלגברים	41
45	שברים כפולים	45

## מספרים מכוונים:

### סיכום כללי:

מספרים מכוונים הם מספרים שיכולים לקבל סימן חיובי או שלילי, כגון:

- בקניון גדול ישנן קומות 1, 2, 3, 4, וכן חניונים הממוקמים בקומות 1-, 2-, ו-3-.
- גובה פני הים מוגדר להיות 0 מטרים. העיר חיפה נמצאת כ-103 מטרים מעל פני הים בעוד שים המלח נמצא בגובה 426- מטרים.

### כללים:

- כאשר מחברים שני מספרים בעלי סימנים זהים, מחברים את המספרים עצמם והסימן נשאר.
- כאשר מחברים שני מספרים בעלי סימנים מנוגדים, מחסירים את המספרים זה מזה (הקטן מהגדול) וסימן התוצאה כסימן המספר הגדול מביניהם.
- כפל וחילוק יתבצע בשני חלקים:
  - ביצוע הפעולה על המספרים עצמם.
  - קביעת הסימן של התוצאה באופן הבא:
    - כפל או חילוק של שני מספרים בעלי אותו סימן - התוצאה תהיה חיובית.
    - כפל או חילוק של שני מספרים שונים סימן - התוצאה תהיה שלילית.

### הערה:

אם יש רצף של מכפלות (או חילוקים), סימן התוצאה תלוי במספר הפעמים שבהם מופיע סימן שלילי (-). אם הסימן מופיע מספר זוגי של פעמים התוצאה חיובית, ואם הוא מופיע מספר אי-זוגי של פעמים אזי התוצאה שלילית.

## שאלות:

(1) סמנו את המספרים הבאים על ציר המספרים בהתאמה:

$$-3\frac{1}{2}, 4, 1\frac{1}{3}, -5, -\frac{1}{2}, 2, 0, \frac{1}{2}, -2$$



(2) חשבו את ערכי הביטויים הבאים:

ב.  $-3-2$

א.  $3+2$

ד.  $-3+2$

ג.  $3-2$

ו.  $7+10$

ה.  $-1-4$

ח.  $-7+3$

ז.  $-6+5$

(3) חשבו את ערכי הביטויים הבאים:

ב.  $5-8-12+17$

א.  $5+7-23+1$

ד.  $-4-11+2+9$

ג.  $3-14+2+6$

ו.  $-7-13+5-3$

ה.  $6-21+3-7$

(4) חשב את ערכי הביטויים הבאים:

ב.  $4 \cdot (-7)$

א.  $4 \cdot 9$

ד.  $(-5) \cdot (-3)$

ג.  $(-6) \cdot (-5)$

ו.  $(-8) \cdot 5$

ה.  $(-2) \cdot 8$

ח.  $2 \cdot 3 \cdot 3$

ז.  $(-2) \cdot (-3) \cdot (-3)$

י.  $(-2) \cdot (-3) \cdot 3$

ט.  $(-2) \cdot 3 \cdot (-3)$

יב.  $(-2) \cdot (-3) \cdot (-3) \cdot (-2)$

יא.  $2 \cdot 3 \cdot (-3)$

יד.  $1 \cdot (-2) \cdot (-4) \cdot 2$

יג.  $(-1) \cdot (-2) \cdot (-4) \cdot 2$

5) מהו הסימן של תוצאת המכפלה בכל מקרה :

א.  $(-2) \cdot (-4) \cdot (-3) \cdot (-10) \cdot (-6) \cdot (-5)$

ב.  $(-1) \cdot 2 \cdot 4 \cdot (-3) \cdot (-10) \cdot 6 \cdot (-5)$

ג.  $(-1) \cdot 2 \cdot 4 \cdot (-3) \cdot (-10) \cdot (-6) \cdot (-5)$

ד.  $(-1) \cdot 2 \cdot 4 \cdot (-3) \cdot (-10) \cdot 6 \cdot 5$

6) חשבו את ערכי הביטויים הבאים :

ב.  $(-30) : 3$

א.  $(-25) : (-5)$

ד.  $(-32) : (-4)$

ג.  $40 : (-10)$

ו.  $4 : (-16)$

ה.  $(-6) : 18$

7) חשבו את ערכי הביטויים הבאים :

ב.  $\frac{42}{-6}$

א.  $\frac{-60}{12}$

ד.  $\frac{-12}{-3}$

ג.  $\frac{32}{-4}$

8) מה התוצאה של כל אחת מהפעולות הבאות :

ב.  $(-2) \cdot 0$

א.  $0 : 5$

ד.  $6 : 0$

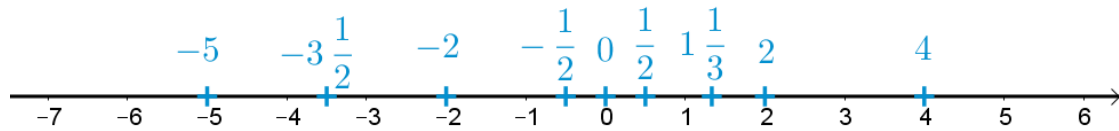
ג.  $0 \cdot (-3) \cdot 4$

ו.  $0 - 4$

ה.  $0 + 4$

## תשובות סופיות:

(1) להלן מערכת הצירים:



- (2) א. 5    ב. -5    ג. 1    ד. -1    ה. -5
- ו. 17    ז. -1    ח. -4
- (3) א. -10    ב. 2    ג. -3    ד. -4    ה. -19    ו. -18
- (4) א. 36    ב. -28    ג. 30    ד. 15    ה. -16
- ו. -40    ז. -18    ח. 18    ט. 18    י. 18
- יא. -18    יב. 36    יג. -16    יד. 16
- (5) א. +    ב. +    ג. -    ד. -
- (6) א. 5    ב. -10    ג. -4    ד. 8    ה.  $-\frac{1}{3}$     ו.  $-\frac{1}{4}$
- (7) א. -5    ב. -7    ג. -8    ד. 4
- (8) א. 0    ב. 0    ג. 0    ד. לא מוגדר    ה. 4    ו. -4

## חזקות ושורשים עם מספרים מכוונים:

### סיכום כללי:

#### הגדרה:

פעולת החזקה היא צורה מקוצרת שמייצגת פעולת כפל של אותו מספר בעצמו מספר פעמים. סימון החזקה הוא באופן הבא:

$$a^n = \underbrace{a \cdot a \cdot a \cdot \dots \cdot a}_n$$

כאשר  $a$  נקרא הבסיס ו- $n$  נקראת החזקה.

#### הערות:

- כאשר הבסיס חיובי, התוצאה תמיד תהיה חיובית ללא קשר האם החזקה היא זוגית או אי-זוגית.
- כאשר הבסיס שלילי, התוצאה תהיה חיובית אם החזקה היא זוגית ושלילית אם החזקה היא אי-זוגית.

#### הגדרה:

פעולת השורש היא הפוכה לפעולת החזקה והיא מאפשרת למצוא את בסיס החזקה. סימון השורש הוא באופן הבא:

$$\sqrt[n]{a}$$

כאשר  $a$  נקרא הבסיס ו- $n$  נקרא סדר השורש.

#### הערות:

- שורש למספר חיובי יכול להיות מסדר זוגי או אי-זוגי.
- שורש למספר שלילי יכול להיות מסדר אי-זוגי בלבד.

## שאלות:

(1) חשב את ערכי הביטויים הבאים:

- |              |               |
|--------------|---------------|
| א. $3^2$     | ב. $3^3$      |
| ג. $(-3)^3$  | ד. $(-2)^3$   |
| ה. $4^3$     | ו. $3^4$      |
| ז. $(-5)^3$  | ח. $10^4$     |
| ט. $-(-3)^4$ | י. $-5^4$     |
| יא. $-4^3$   | יב. $-(-2)^6$ |

(2) חשב את ערכי הביטויים הבאים:

- |                    |                      |
|--------------------|----------------------|
| א. $\sqrt[3]{-27}$ | ב. $\sqrt[4]{625}$   |
| ג. $\sqrt[4]{-16}$ | ד. $\sqrt[5]{-32}$   |
| ה. $-\sqrt[4]{81}$ | ו. $-\sqrt[3]{1000}$ |

## תשובות סופיות:

- |         |          |             |         |         |         |
|---------|----------|-------------|---------|---------|---------|
| א. 9    | ב. 27    | ג. -27      | ד. -8   | ה. 64   | ו. 81   |
| ז. -125 | ח. 10000 | ט. -81      | י. -625 | יא. -64 | יב. -64 |
| א. -3   | ב. 5     | ג. לא מוגדר | ד. -2   | ה. -3   | ו. -10  |

## סדר פעולות חשבון עם מספרים מכוונים:

סיכום כללי:

סדר פעולות חשבון:

- פעולות כפל וחילוק קודמות לפעולות חיבור וחסור.
- פעולות חזקה ושורש קודמות לפעולות כפל וחילוק.
- סוגריים קודמים לכל.

שאלות:

חשב את ערכי הביטויים הבאים:

$(-3)^2 : 9 - 2 \cdot (-4^2)$ (2)	$\sqrt{81} + 3 \cdot 2^3 - 40 : 8$ (1)
$3 + 4 \cdot [-3 + 4 \cdot (-2)] + \sqrt{10 + 6}$ (4)	$\sqrt{144} - 20 : 4 + 3 \cdot (-2)^2$ (3)
$-\sqrt{9} + 5^2 : (-4 - 1) - 24 : 12 \cdot 3$ (6)	$(-3)^4 : (-9) - 5 \cdot (-2)^3$ (5)
$\sqrt[3]{-27} + 4 \cdot 3^2 - 2 \cdot 3^3$ (8)	$-2^5 : (-8) + 4^2 - 3 \cdot 5$ (7)
$(8 - \sqrt[3]{64}) \cdot (2 \cdot (-4) - \sqrt[3]{243})$ (10)	$[6 \cdot (-1)^4 - 10 \cdot (-1)^3] \cdot (-1)^5$ (9)
	$\frac{3^2 \cdot (8 - 2 \cdot 3)^3}{(5^2 \cdot 3 - 72) \cdot (-4)} + 2 \cdot \{15 - 20 : (4 + 3 \cdot 2)\}$ (11)

תשובות סופיות:

-37 (4)	19 (3)	33 (2)	28 (1)
-21 (8)	5 (7)	-14 (6)	31 (5)
	20 (11)	-44 (10)	-16 (9)

## שברים פשוטים, עשרוניים ואחוזים:

**סיכום כללי:**

**הגדרה כללית:**

השבר הוא חלק מתוך השלם. מקובל לסמן שבר באמצעות קו שבר המפריד בין המונה (החלק העליון) למכנה (החלק התחתון) באופן הבא:

$$\frac{\text{מונה}}{\text{מכנה}}$$

**ישנם שלושה סוגים אפשריים של שברים:**

- שבר פשוט – בו המונה קטן מהמכנה (ולכן תמיד יהיה קטן מ-1).
- שבר מדומה – בו המונה גדול מהמכנה (יהיה גדול בערכו מ-1).
- שבר מעורב – המכיל שילוב של מספר שלם ושבר כלשהו.

**שבר עשרוני:**

שבר שהמכנה שלו הוא מספר המהווה כפולות של 10 כגון: 10, 100, 1000 ... שבר עשרוני מיוצג ע"י נקודה עשרונית אשר מבדילה בין החלק שלם לחלק השברי באופן הבא:

$$\underbrace{XX}_{\text{שברים שלמים}}.\underbrace{YYY}$$

כדי להמיר שבר פשוט לשבר עשרוני המכנה צריך להיות בכפולות של 10.

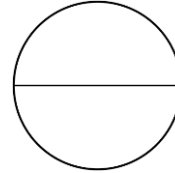
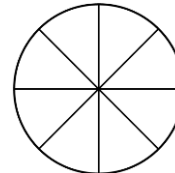
**אחוזים - הגדרה:**

השבר  $\frac{1}{100}$  מוגדר להיות אחוז אחד ומסומן באופן הבא: 1%.

באופן זה השבר  $\frac{45}{100}$  יכתב: 45%, והשבר  $\frac{145}{100}$  יכתב: 145%.

## שאלות:

(1) צבע את החלקים המתאימים בכל עיגול:

ב. צבע  $\frac{1}{6}$  מהעיגולא. צבע  $\frac{1}{2}$  מהעיגולד. צבע  $\frac{2}{5}$  מהעיגולג. צבע  $\frac{3}{8}$  מהעיגול

(2) כתוב את השבר המתאים לחלקים הצבועים בכל אחד מהמקרים הבאים:

ב. שבר:



א. שבר:



ד. שבר:



ג. שבר:



(3) הרחב את השברים הבאים:

א. השבר  $\frac{1}{2}$  לפי בסיס 4, לפי בסיס 18, לפי בסיס 40.ב. השבר  $\frac{3}{5}$  לפי בסיס 10, לפי בסיס 25, לפי בסיס 60.ג. השבר  $\frac{5}{8}$  לפי בסיס 16, לפי בסיס 32, לפי בסיס 88.

(4) צמצם את השברים הבאים ככל הניתן :

א. $\frac{25}{30}$	ב. $\frac{10}{30}$	ג. $\frac{6}{24}$	ד. $\frac{4}{20}$
ה. $\frac{35}{56}$	ו. $\frac{24}{42}$	ז. $\frac{36}{48}$	ח. $\frac{33}{121}$

(5) המר את השברים המדומים הבאים לשברים מעורבים :

א. $-\frac{20}{3}$	ב. $\frac{19}{4}$	ג. $\frac{12}{5}$	ד. $\frac{22}{5}$
ה. $-\frac{34}{6}$	ו. $-\frac{50}{7}$	ז. $\frac{47}{8}$	ח. $\frac{60}{9}$

(6) המר את השברים המעורבים הבאים לשברים מדומים :

א. $1\frac{2}{3}$	ב. $3\frac{5}{6}$	ג. $4\frac{1}{2}$	ד. $6\frac{1}{4}$
ה. $11\frac{3}{4}$	ו. $-2\frac{5}{8}$	ז. $-6\frac{2}{7}$	ח. $12\frac{7}{9}$

(7) קבע איזה שבר גדול יותר בכל אחד מהמקרים הבאים :

א. $\frac{4}{10}$ או $\frac{3}{10}$	ב. $\frac{7}{6}$ או $\frac{7}{8}$
ג. $\frac{5}{6}$ או $\frac{2}{3}$	ד. $\frac{7}{12}$ או $\frac{5}{18}$

(8) המר את השברים העשרוניים הבאים לשברים פשוטים מצומצמים או מעורבים :

א. 0.7	ב. 0.07	ג. 0.007	ד. 0.34
ה. 0.304	ו. 0.65	ז. 1.2	ח. 1.02
ט. 1.42	י. 3.5	יא. 6.03	יב. 5.125

9) המר את השברים הבאים לשברים עשרוניים:

א. $\frac{3}{10}$	ב. $\frac{3}{100}$	ג. $\frac{3}{1000}$	ד. $\frac{23}{1000}$
ה. $\frac{1}{2}$	ו. $\frac{3}{4}$	ז. $\frac{2}{5}$	ח. $\frac{4}{25}$
ט. $\frac{7}{50}$	י. $\frac{3}{20}$	יא. $\frac{7}{8}$	יב. $\frac{9}{16}$
יג. $9\frac{1}{10}$	יד. $3\frac{1}{5}$	טו. $4\frac{7}{8}$	טז. $-4\frac{1}{16}$

10) כתוב את השברים הבאים בצורתם העשרונית (היעזר במחשבון וכתוב עד 3 ספרות אחרי הנקודה העשרונית):

א. $\frac{2}{3}$	ב. $\frac{5}{6}$	ג. $\frac{3}{7}$	ד. $\frac{2}{11}$
------------------	------------------	------------------	-------------------

11) המר מאחוזים לשברים פשוטים:

א. 25%	ב. 32%	ג. 64%	ד. 80%
ה. 120%	ו. 5%	ז. 300%	ח. 150%

12) המר משברים פשוטים לאחוזים:

א. $\frac{3}{4}$	ב. $\frac{1}{8}$	ג. $\frac{4}{5}$	ד. $\frac{7}{20}$
ה. $\frac{11}{40}$	ו. $\frac{70}{125}$	ז. $\frac{5}{6}$	ח. $\frac{4}{9}$

## תשובות סופיות:

- (1) תשובה מודגמת בסרטון.
- (2) א.  $\frac{1}{5}$  ב.  $\frac{1}{6}$  ג.  $\frac{2}{3}$  ד.  $\frac{3}{4}$
- (3) א.  $\frac{4}{8}, \frac{18}{36}, \frac{40}{80}$  ב.  $\frac{30}{50}, \frac{75}{125}, \frac{180}{300}$  ג.  $\frac{80}{128}, \frac{160}{256}, \frac{440}{700}$
- (4) א.  $\frac{5}{6}$  ב.  $\frac{1}{3}$  ג.  $\frac{1}{4}$  ד.  $\frac{1}{5}$  ה.  $\frac{5}{8}$  ו.  $\frac{4}{7}$
- (5) א.  $-6\frac{2}{3}$  ב.  $4\frac{3}{4}$  ג.  $2\frac{2}{5}$  ד.  $4\frac{2}{5}$  ה.  $-5\frac{4}{6}$  ו.  $-7\frac{1}{7}$
- (6) א.  $\frac{5}{3}$  ב.  $\frac{23}{6}$  ג.  $\frac{9}{2}$  ד.  $\frac{25}{4}$  ה.  $\frac{47}{4}$  ו.  $-\frac{21}{8}$
- (7) א.  $\frac{4}{10}$  ב.  $\frac{7}{6}$  ג.  $\frac{5}{6}$  ד.  $\frac{7}{12}$
- (8) א.  $\frac{7}{10}$  ב.  $\frac{7}{100}$  ג.  $\frac{7}{1000}$  ד.  $\frac{17}{50}$  ה.  $\frac{38}{125}$  ו.  $\frac{13}{20}$
- (9) א. 0.3 ב. 0.03 ג. 0.003 ד. 0.023 ה. 0.5 ו. 0.75
- א. 0.4 ב. 0.16 ג. 0.14 ד. 0.15 ה. 0.875 ו. -4.0625
- א.  $0.6\bar{6}$  ב.  $0.8\bar{3}$  ג. 0.428 ד.  $0.1\bar{8}$
- (10) א.  $\frac{1}{4}$  ב.  $\frac{8}{25}$  ג.  $\frac{16}{25}$  ד.  $\frac{4}{5}$  ה.  $1\frac{1}{5}$  ו.  $\frac{1}{20}$
- (11) א. 3 ב.  $1\frac{1}{2}$

12) א. 75%    ב. 12.5%    ג. 80%    ד. 35%    ה. 27.5%    ו. 56%

ז. 83.333%    ח. 44.444%

## כפל וחילוק שברים:

### סיכום כללי:

- כשכופלים שני שברים יש לכפול מונה במונה ומכנה במכנה.
  - במידה ומדובר במספר שלם הכופל שבר, יש לכפול אותו במונה.
  - במידה ומדובר בשברים מעורבים, יש להפוך אותם תחילה לשברים מדומים ורק אז לבצע את פעולת הכפל.
- כדי לחלק שברים, יש לכפול את השבר הראשון בהופכי של השבר השני.
  - הופכי של שבר מסוים מתקבל ע"י החלפת המונה במכנה.

### שאלות:

(1) חשב את ערכי הביטויים הבאים:

$\frac{2}{9} \cdot \frac{8}{10}$ ג.	$\frac{2}{7} \cdot \frac{5}{6}$ ב.	$\frac{3}{5} \cdot \frac{3}{4}$ א.
$\frac{12}{25} \cdot 5$ ו.	$6 \cdot \frac{2}{3}$ ה.	$3 \cdot \frac{4}{5}$ ד.
$3\frac{3}{7} \cdot 2\frac{2}{5}$ ט.	$3\frac{1}{2} \cdot 4\frac{2}{5}$ ח.	$1\frac{3}{5} \cdot 2\frac{1}{4}$ ז.
$\frac{4^3}{5}$ יב.	$\frac{4}{5^3}$ יא.	$\left(\frac{4}{5}\right)^3$ י.

(2) חשב את ערכי הביטויים הבאים:

$\frac{3}{25} : \frac{7}{10}$ ג.	$\frac{3}{4} : \frac{1}{2}$ ב.	$\frac{2}{5} : \frac{4}{9}$ א.
$\frac{5}{6} : 3$ ו.	$10 : \frac{2}{3}$ ה.	$8 : \frac{2}{9}$ ד.
$2\frac{2}{5} : 1\frac{3}{15}$ ט.	$3\frac{3}{4} : 5\frac{5}{8}$ ח.	$\frac{2}{5} : 5$ ז.

## תשובות סופיות:

א. $\frac{9}{20}$	ב. $\frac{5}{21}$	ג. $\frac{8}{45}$	ד. $2\frac{2}{5}$	ה. 4	ו. $2\frac{2}{5}$
ז. $3\frac{3}{5}$	ח. $15\frac{2}{5}$	ט. $8\frac{8}{35}$	י. $\frac{64}{125}$	יא. $\frac{4}{125}$	יב. $12\frac{4}{5}$
א. $\frac{9}{10}$	ב. $1\frac{1}{2}$	ג. $\frac{6}{35}$	ד. 36	ה. 15	ו. $\frac{5}{18}$
ז. $\frac{2}{25}$	ח. $\frac{2}{3}$	ט. 2			

## חיבור וחסור שברים:

### סיכום כללי:

#### כפולה משותפת מינימלית:

בהינתן זוג מספרים  $a$  ו- $b$ , המספר הקטן ביותר אשר תוצאת חלוקתו במספרים הנ"ל מניבה מספר שלם נקרא הכפולה המינימלית שלהם.

#### הערות:

- כפולה מינימלית יכולה להיות גם עבור יותר משני מספרים.
- הכפולה המינימלית תהיה המכנה המשותף בעת פעולות חיבור וחסור של שברים.

#### כללי החיבור והחסור של שברים:

- חיבור וחסור של שברים בעלי אותו המכנה מתבצע על המספרים שבמונה בלבד כאשר המכנה נשאר כפי שהוא.

$$\text{דוגמא: } \frac{2}{7} - \frac{3}{7} = \frac{2-3}{7} = \frac{-1}{7}, \quad \frac{2}{7} + \frac{3}{7} = \frac{2+3}{7} = \frac{5}{7}$$

- חיבור וחסור של שברים בעלי מכנים שונים מתבצע ע"י פעולת מכנה משותף.

$$\text{דוגמא: } \frac{1}{4} - \frac{5}{6} = \frac{3}{12} - \frac{10}{12} = \frac{3-10}{12} = -\frac{7}{12}, \quad \frac{2}{5} + \frac{1}{3} = \frac{6}{15} + \frac{5}{15} = \frac{6+5}{15} = \frac{11}{15}$$

- חיבור של שבר עם מספר שלם יתבצע באופן ישיר.

$$\text{דוגמא: } 3 + \frac{1}{4} = 3\frac{1}{4}$$

חסור של שבר ממספר שלם יתבצע ע"י הוצאת שלמים מהשבר.

$$\text{דוגמא: } 3 - \frac{1}{4} = 2\frac{4}{4} - \frac{1}{4} = 2\frac{3}{4}$$

דרך נוספת היא ע"י העברת המספר השלם לשבר מדומה:  $3 - \frac{1}{4} = \frac{12}{4} - \frac{1}{4} = \frac{11}{4} = 2\frac{3}{4}$

- חיבור וחסור של שברים מעורבים יתבצע ע"י העברתם לשברים מדומים תחילה.

$$\text{דוגמא: } 3\frac{2}{5} + 2\frac{1}{6} = \frac{17}{5} + \frac{13}{6} = \frac{17 \cdot 6}{30} + \frac{13 \cdot 5}{30} = \frac{102 + 65}{30} = \frac{167}{30} = 5\frac{17}{30}$$

ניתן גם לפצל ולבצע את פעולת החיבור (או החיסור) של המספרים השלמים תחילה, ולאחר מכן לבצע את הפעולה עבור השברים.

$$\text{דוגמא: } 2\frac{3}{4} - 5\frac{1}{3} = (2 - 5) + \left(\frac{3}{4} - \frac{1}{3}\right) = -3 + \left(\frac{9}{12} - \frac{4}{12}\right) = -3 + \frac{5}{12} = -2\frac{7}{12}$$

### שאלות:

- (1) מצא את הכפולה המשותפת המינימלית של המספרים הבאים:

א. 2 ו-3	ב. 2 ו-4	ג. 3 ו-5	ד. 6 ו-10
ה. 4 ו-10	ו. 4 ו-6	ז. 3, 5 ו-10	ח. 2, 3 ו-8

- (2) חשב את ערכי הביטויים הבאים:

א. $\frac{1}{5} + \frac{3}{5}$	ב. $\frac{5}{9} + \frac{2}{9}$
ג. $\frac{4}{13} + \frac{9}{13}$	ד. $\frac{7}{8} + \frac{7}{8}$
ה. $\frac{7}{8} - \frac{3}{8}$	ו. $\frac{8}{9} - \frac{7}{9}$
ז. $\frac{2}{12} - \frac{5}{12}$	ח. $\frac{2}{5} - \frac{6}{5}$
ט. $\frac{2}{8} + \frac{5}{8} + \frac{6}{8}$	י. $\frac{7}{15} + \frac{8}{15} - \frac{6}{15}$

(3) חשב את ערכי הביטויים הבאים:

א.  $\frac{1}{2} + \frac{4}{3}$

ב.  $\frac{3}{5} + \frac{1}{10}$

ג.  $\frac{4}{6} - \frac{1}{12}$

ד.  $\frac{3}{6} - \frac{5}{8}$

ה.  $\frac{5}{4} + \frac{7}{2} + \frac{2}{8}$

ו.  $\frac{7}{3} + \frac{6}{5} + \frac{3}{10}$

ז.  $\frac{4}{7} - \frac{1}{6} + \frac{1}{2}$

ח.  $\frac{1}{4} + \frac{2}{8} - \frac{3}{5}$

(4) חשב את ערכי הביטויים הבאים:

א.  $2 + \frac{5}{6}$

ב.  $2 - \frac{5}{6}$

ג.  $2\frac{1}{4} + \frac{5}{6}$

ד.  $2\frac{1}{4} - \frac{5}{6}$

ה.  $3\frac{2}{3} + 4\frac{1}{4}$

ו.  $5\frac{7}{8} - 6\frac{1}{2}$

ז.  $2 + \frac{5}{6} - \frac{1}{9}$

ח.  $\frac{3}{4} - 1\frac{1}{5} + \frac{8}{20}$

(5) חשב את ערכי הביטויים הבאים:

א.  $\frac{1}{2} \cdot \left(1 - \frac{3}{4}\right) + 2\frac{1}{3}$

ב.  $\frac{3}{14} : \frac{2}{7} + \frac{1}{3} \cdot 2\frac{1}{4} - \frac{2}{5}$

ג.  $\frac{5}{11} \cdot 2\frac{3}{4} - 6 : \frac{2}{5}$

ד.  $2\frac{4}{5} : \frac{9}{10} \cdot \frac{6}{7} + \frac{1}{6}$

ה.  $\frac{5}{6} : \frac{3}{4} + \frac{2}{3} \cdot 3\frac{1}{4}$

## תשובות סופיות:

12 .ג	20 .ה	30 .ד	15 .ג	4 .ב	6 .א (1
				24 .ח	30 .ז
$\frac{1}{9}$ .ג	$\frac{1}{2}$ .ה	$1\frac{3}{4}$ .ד	1 .ג	$\frac{7}{9}$ .ב	$\frac{4}{5}$ .א (2
		$\frac{3}{5}$ .י	$1\frac{5}{8}$ .ט	$-\frac{4}{5}$ .ח	$-\frac{1}{4}$ .ז
$3\frac{5}{6}$ .ג	5 .ה	$-\frac{1}{8}$ .ד	$\frac{7}{12}$ .ג	$\frac{7}{10}$ .ב	$1\frac{5}{6}$ .א (3
				$-\frac{1}{10}$ .ח	$\frac{19}{21}$ .ז
$-\frac{5}{8}$ .ג	$7\frac{11}{12}$ .ה	$1\frac{5}{12}$ .ד	$3\frac{1}{12}$ .ג	$1\frac{1}{6}$ .ב	$2\frac{5}{6}$ .א (4
				$-\frac{1}{20}$ .ח	$2\frac{13}{18}$ .ז
	$3\frac{5}{18}$ .ה	$2\frac{5}{6}$ .ד	$-13\frac{3}{4}$ .ג	$1\frac{1}{10}$ .ב	$2\frac{11}{24}$ .א (5

## בעיות יסודיות באחוזים:

### סיכום כללי:

נוסחה לביצוע חישובים עם אחוזים:

$$\text{תמורת האחוז} = \text{שלם} \cdot \frac{\text{אחוז}}{100}$$

למשל, בהינתן גודל שלם 120, אשר יש לחשב כמה הם 40 אחוזים ממנו, נקבל לפי הנוסחה:  $48 = 120 \cdot \frac{40}{100}$ , כלומר: **תמורת האחוז 40 מהגודל 120 היא 48.**

### שאלות:

- (1) בכיתה 30 תלמידים. 60% מתוכם בנות.
  - א. כמה בנות בכיתה?
  - ב. כמה בנים בכיתה?
- (2) בכיתה 28 בנות המהוות 70% מכלל התלמידים בכיתה.
  - א. כמה תלמידים בכיתה?
  - ב. כמה בנים בכיתה?
- (3) מחיר בגד-ים הוא 300 ₪. בסוף העונה הוא נמכר ב-20% הנחה.
  - א. מהו מחירו בסוף העונה?
  - ב. מה גודל ההנחה?
- (4) מחיר ההשקה של בושם מסוים הוא 500 ₪. לאחר מכן מועלה מחירו ב-8%.
  - א. מה מחירו הסופי?
  - ב. מה גודל ההתייקרות?
- (5) מחיר ליטר דלק הוא 5 ₪ לליטר. בחנוכה מוזל מחירו ב-7%.
  - א. מה מחירו בסוף השנה?
  - ב. מה גודל התייקרות?
- (6) מוצר מסויים מתייקר בסוכות ב-12%. בפורים מוזל המוצר ב-12%.
  - א. מה מחירו בסוף השנה?
  - ב. מה גודל התייקרות?

7) ענה על השאלות הבאות:

- א. באולם קולנוע 200 צופים, מתוכם 176 בנים.  
מה אחוז הבנים בקהל?
- ב. בכיתה 30 תלמידים, מתוכם 18 בנות.  
מה אחוז הבנות בכיתה?
- ג. מחיר מוצר התייקר מ-80 ₪ ל-120 ₪.  
בכמה אחוזים התייקר המוצר?
- ד. מחיר מוצר הוזל מ-120 ₪ ל-80 ₪.  
בכמה אחוזים הוזל המוצר?
- ה. מחיר מוצר התייקר מ-150 ₪ ל-200 ₪.  
בכמה אחוזים התייקר המוצר?
- ו. מחיר מוצר הוזל מ-200 ₪ ל-150 ₪.  
בכמה אחוזים הוזל המוצר?

### תשובות סופיות:

- 1) א. 18 בנות. ב. 12 בנים.
- 2) א. 40 תלמידים. ב. 12 בנים.
- 3) א. 240 ₪. ב. 60 ₪.
- 4) א. 540 ₪. ב. 40 ₪.
- 5) 4.9755 ₪.
- 6) 400 ₪.
- 7) א. 88% ב. 60% ג. 50% ד. 33.33% ה. 33.33% ו. 25%

## חזרה על תבניות מספר:

### סיכום כללי:

משתנה הוא סמל המתאר כמות או גודל כלשהם אשר אינם ידועים ועשויים להשתנות.

תבנית מספר היא ביטוי אלגברי אשר מכיל משתנה (או משתנים). ניתן להציב במשתנים ערכים מספריים שונים ולקבל תוצאות שונות עבור תבנית המספר עצמה.

במתמטיקה, תפקידה של תבנית המספר הוא להביע גודל מסוים אשר לערכו יש משמעויות שונות. דוגמא לכך היא: קנייה של  $x$  פריטים, אשר כל אחד עולה 3 שקלים, יניבו תבנית מספר של  $3 \cdot x$  אשר מייצגת את הסכום הכולל של הפריטים.

### שאלות:

(1) חשב את ערכי הביטויים האלגבריים הבאים עבור ה- $x$  הנתון:

א.  $2x+5$  כאשר  $x=3$       ב.  $x^2+3x$  כאשר  $x=2$

ג.  $-x^2+2x+3$  כאשר  $x=5$       ד.  $-x^2-9x+5$  כאשר  $x=5$

ה.  $x^3+1$  כאשר  $x=-2$       ו.  $4-x^3$  כאשר  $x=-1$

ז.  $(x+1)(2-x)$  כאשר  $x=4$       ח.  $x^2(3x-4)$  כאשר  $x=3$

(2) חשב את ערכי הביטויים האלגבריים הבאים עבור ה- $x$  הנתון:

א.  $27x^5-2x^3+x$  כאשר  $x=\frac{1}{3}$

ב.  $\frac{1}{3}x^2+\frac{1}{2}x+6$  כאשר  $x=-\frac{2}{3}$

3) הצב את הערכים המספריים במקום הפרמטרים וחשב את ערך תבנית המספר:

- |                                  |   |
|----------------------------------|---|
| א. $a^2 + 2ab + b^2$             | עבור: $a = 3, b = -5$                                   |
| ב. $(x-3)^2 + 3x^2b$             | עבור: $x = 5, b = -1$                                   |
| ג. $-x^3 - 2xy + y^4$            | עבור: $x = -2, y = -1$                                  |
| ד. $\frac{(a-2c)^4}{a} - a^2$    | עבור: $a = 2, c = -2$                                   |
| ה. $\frac{4a^2 - 3b}{c}$         | עבור: $a = -1, b = 2, c = -4$                           |
| ו. $\sqrt{c-3a}$                 | עבור: $c = 13, a = -1$ ועבור: $c = 82, a = \frac{1}{3}$ |
| ז. $\frac{p^3 + 2\sqrt{q+1}}{m}$ | עבור: $p = -5, q = 48, m = 3$                           |

### תשובות סופיות:

- |           |                    |        |        |                  |        |
|-----------|--------------------|--------|--------|------------------|--------|
| 11 א. (1) | 10 ב.              | ג. -12 | ד. -65 | ה. -7            | ו. 5   |
| ז. -10    | ח. 45              |        |        |                  |        |
| 10 א. (2) | ב. $\frac{22}{27}$ |        |        |                  |        |
| 4 א. (3)  | ב. -71             | ג. 5   | ד. 644 | ה. $\frac{1}{2}$ | ז. -37 |
- ו. הצבה ראשונה: 4, הצבה שנייה: 9

## כינוס איברים:

### סיכום כללי:

תבניות אלגבריות יכולות להכיל איברים רבים ולכן נרצה לכנס אותם על מנת לפשט את התבנית. כדי לכנס איברים ניקח את כל קבוצת האיברים מאותו הסוג ונחבר את המקדמים שלהם. דוגמא:  $3x + 6x - 5x = (3 + 6 - 5)x = 4x$ .  
 איברים שונים נבדלים זה מזה בערך התבנית האלגברית שלהם.  
 כך:  $3x$  שונה מ- $4y$  ושונה מ- $2xy$ . באותו האופן, האיברים  $x$  ו- $x^2$  הם שונים.

### שאלות:

כנס איברים דומים:

- |   |  |
|---|--|
| $9x^2 - 2x^2 - 3x^2 - 2x^2$ (2)   | $5x + 7x - 4x$ (1)                             |
| $x^2y - 3yx^2 + x^2y$ (4)   | $-10xy + 15xy + xy - 2yx$ (3)                  |
| $2x^2 - 3m^2 - x^2 + 3m^2$ (6)  | $8a^2 + 10a - 5a^2 - 11a + a^2$ (5)            |
| $mn^2 + 4m^2n + 6n^2m - 10nm^2 + mn^2$ (8)  | $3xy + y - 30y + 6yx - 7y$ (7)                 |
| $y^2 + x^2 - 5x^2 + 5y^2 + 4x^2 - 6y^2$ (10)  | $-6 + x^3 + 4 - 3x^3 + 17x^3 - 17$ (9)         |
| $5xy + 2x - 3yx - x + 1$ (12)   | $7x^2 - 3x - 4x + 2$ (11)                      |
| $x + xy + y - 6yx - 6y - 6x$ (14)   | $3 - x - x^2 + 4x + 5x^2 - 12$ (13)            |
| $ab^2 + 6ba^2 - 6b + 16a^2b + 3b - 6b^2a$ (16)  | $mn + n - 5m + 5nm - 14n + 3m$ (15)            |
| $4x^2z + 6xz^2 - 6 - xz^2 + 12 + 10zx^2$ (18)   | $z^3 - 4z^2 + 7 - z^3 - 8 + 8z^2$ (17)         |
| $x^3 - 3x - 4x^2 + 2x + x^3 + x^2 - 2x^3$ (20)  | $2 - x^3 - 3 - 4x^2 + 2x + x^3 + x^2 - 2$ (19) |
| $12x^2y^3 + 13a^2 - 20x^2y^3 + 2a^2$ (22)   | $2a^2b + 3x^2y + 5a^2b + 10x^2y$ (21)          |
| $-2x^3y + 5x^2 - 4yx^3 - 6x^2$ (24)   | $2y^2 - 4x^3y^2 - 10y^2 - x^3y^2$ (23)         |
| $5a^2b - 8ab^2 + 20a^2b - 14ab^2$ (26)  | $2a^2b + 2b + 3a^2 + 5b$ (25)                  |
| $-12x^2 + 2y^2 + 3x^2y + 14xy^2 - 5xy^2 - 6y^2 + 2xy + 11x^2 + x^2y - 9xy$ (27)               |  |
| $21x^3y^3 + x^2y^2 - 3xy^3 + x^3y - 15x^2y^2 - 7x^3y + 12x^3y^3 - 4xy^3 + 4xy^3 - 6x^3y$ (28) |  |

## תשובות סופיות:

- |                           |                        |   |
|---------------------------|------------------------|---|
| $4xy$ (3)                 | $2x^2$ (2)             | $8x$ (1)                                    |
| $x^2$ (6)                 | $4a^2 - a$ (5)         | $-x^2y$ (4)                                 |
| $15x^3 - 19$ (9)          | $8mn^2 - 6nm^2$ (8)    | $9xy - 36y$ (7)                             |
| $2xy + x + 1$ (12)        | $7x^2 - 7x + 2$ (11)   | $0$ (10)                                    |
| $-13n - 2m + 6mn$ (15)    | $-5x - 5y - 5xy$ (14)  | $4x^2 + 3x - 9$ (13)                        |
| $14x^2z + 5xz^2 + 6$ (18) | $4z^2 - 1$ (17)        | $-5ab^2 + 22a^2b - 3b$ (16)                 |
| $7a^2b + 13x^2y$ (21)     | $-3x^2 - x$ (20)       | $-3x^2 + 2x - 3$ (19)                       |
| $-6x^3y - x^2$ (24)       | $-8y^2 - 5x^3y^2$ (23) | $-8x^2y^3 + 15a^2$ (22)                     |
|                           | $25a^2b - 22ab^2$ (26) | $2a^2b + 3a^2 + 7b$ (25)                    |
|                           |                        | $-x^2 - 4y^2 + 4x^2y + 9xy^2 - 7xy$ (27)    |
|                           |                        | $33x^3y^3 - 14x^2y^2 - 3xy^3 - 12x^3y$ (28) |

## פישוט ביטויים ע"י פתיחת סוגריים:

### סיכום כללי:

בעת ביצוע כפל בין שני איברים יש לכפול את המקדמים בנפרד ואת האותיות (משתנים) בנפרד.

כלל הפילוג:

$$\bullet a(b+c) = ab+ac$$

$$\bullet (a+b)(c+d) = ac+ad+bc+bd$$

### שאלות:

(1) פשט את הביטויים הבאים:

א. $2x \cdot 3x$	ב. $-4x \cdot (-7x)$	ג. $-2x \cdot (-4x) \cdot (-3)$
ד. $8m^2 \cdot 4m^3$	ה. $3a^3 \cdot (-2a^2)$	ו. $-b \cdot 4b^2 \cdot \frac{b^2}{2}$
ז. $a \cdot 3b$	ח. $4a^2 \cdot 7b^2$	ט. $ab \cdot (-2a^2b)$

(2) פשט את הביטויים הבאים ע"י פתיחת סוגריים:

א. $2(3x-4)$	ב. $2(-3x^2+5x-1)$
ג. $(7x-2)4$	ד. $(1-2x)(-2)$
ה. $a(3a-1)$	ו. $b(b^2-3b+4)$
ז. $2x(5x+3)$	ח. $5x(x^2+2x-3)$
ט. $3t^2(4t-t^2+6)$	י. $\frac{5}{2}(4d^4-3d)d$

(3) פשט את הביטויים הבאים:

א. $5x+(3x-2)+(-4-2x)$	ב. $7x+(-4x-5)+3x+(-1+7x)$
ג. $8-(2x-5)-(4x+2)$	ד. $-6x-(-3x-1)-(-7-4x)+1$

$$\text{ה. } (3-2x^2+4)2+3(x-x^2)-6(7-5x)+4x^2$$

$$\text{ו. } 3y^2-(y+1-2y^2)+6(5y-6)-(-y-4)3+5(y^2+1)-7$$

4 פשט את הביטויים הבאים :

$$\text{א. } (x-1)(x+2) \quad \text{ב. } (x+3)(x-7)$$

$$\text{ג. } (3-x)(x+4) \quad \text{ד. } (3x+4)(5x+1)$$

$$\text{ה. } 3(4x+1)(2x-3) \quad \text{ו. } -2(3x-1)(5-2x)$$

5 פשט את ערכי הביטויים הבאים :

$$\text{א. } (x-1)(x+3)+2(3-x)$$

$$\text{ב. } (a+4)(a-2)-(a+5)(a-3)$$

$$\text{ג. } (2m-3)(4m+3)+5(2m^2-6)$$

$$\text{ד. } -x^2y^2(x^3y+x^2)+2xy(2x^3y-x^4y^2)$$

### תשובות סופיות:

$$\text{(1) א. } 6x^2 \quad \text{ב. } 28x^2 \quad \text{ג. } -24x^2 \quad \text{ד. } 32m^5 \quad \text{ה. } -6a^5 \quad \text{ו. } -2b^5$$

$$\text{ז. } 3ab \quad \text{ח. } 28a^2b^2 \quad \text{ט. } -2a^3b^2$$

$$\text{(2) א. } 6x-8 \quad \text{ב. } -6x^2+10x-2 \quad \text{ג. } 28x-8 \quad \text{ד. } -2+4x$$

$$\text{ה. } 3a^2-a \quad \text{ו. } b^3-3b^2+4b \quad \text{ז. } 10x^2+6x \quad \text{ח. } 5x^3+10x^2-15x$$

$$\text{ט. } 12t^3-3t^4+18t^2 \quad \text{י. } 10d^5-7.5d^2$$

$$\text{(3) א. } 6x-6 \quad \text{ב. } 13x-6 \quad \text{ג. } -6x+11 \quad \text{ד. } x+9 \quad \text{ה. } -3x^2+33x-28$$

$$\text{ו. } 10y^2+32y-27$$

$$\text{(4) א. } x^2+x-2 \quad \text{ב. } x^2-4x-21 \quad \text{ג. } -x^2-x+12$$

$$\text{ד. } 15x^2+23x+4 \quad \text{ה. } 24x^2-30x-9 \quad \text{ו. } 12x^2-34x+10$$

$$\text{(5) א. } x^2+3 \quad \text{ב. } 7 \quad \text{ג. } 18m^2-6m-39 \quad \text{ד. } -3x^5y^3+3x^4y^2$$

## פישוט ביטויים באמצעות נוסחאות הכפל המקוצר:

### סיכום כללי:

- נוסחת ריבוע של סכום/הפרש:  $(a \pm b)^2 = a^2 \pm 2ab + b^2$ .
- נוסחה להפרש ריבועים:  $(a+b)(a-b) = a^2 - b^2$ .

### שאלות:

#### (1) פשט את הביטויים הבאים:

א. $(x+5)^2$	ב. $(x+2)^2$	ג. $(4x+5)^2$
ד. $(6x+2)^2$	ה. $(7x+y)^2$	ו. $(5x+2y)^2$
ז. $(x^2+7)^2$	ח. $(x^2+y^2)^2$	ט. $(x^3+2y^2x)^2$

#### (2) פשט את הביטויים הבאים:

א. $(x-6)^2$	ב. $(x-2)^2$	ג. $(5-x)^2$
ד. $(6x-1)^2$	ה. $\left(3x-\frac{1}{2}\right)^2$	ו. $\left(\frac{1}{3}x-5\right)^2$
ז. $(3m-2n)^2$	ח. $\left(x^2-\frac{3}{5}y\right)^2$	ט. $(x^2y^2-7)^2$

#### (3) פשט את הביטויים הבאים:

א. $(x-5)(x+5)$	ב. $(3+x)(x-3)$
ג. $(3x-1)(3x+1)$	ד. $(5-7x)(7x+5)$
ה. $\left(\frac{1}{2}x+6\right)\left(\frac{1}{2}x-6\right)$	ו. $\left(5y-\frac{1}{4}x\right)\left(\frac{1}{4}x+5y\right)$
ז. $(x^2+y)(x^2-y)$	ח. $(3a^2b^3-4)(3a^2b^3+4)$

(4) פשט את הביטויים הבאים:

א. $(x+1)(x+2)-3x$	ב. $(x-5)(5x-1)+2(4+x)$
ג. $x(2x-1)(2x+1)-4x^2(x+1)$	ד. $-(y+3x)(y-3x)+(y-3x)^2$
ה. $x(x+3)-(6+x)(6x+2)-(x+2)^2$	
ו. $-5(x+7)(x-7)+3(2x+5)(5-x)+(x+1)^2$	

## תשובות סופיות:

א. $x^2+10x+25$	ב. $x^2+4x+4$	ג. $16x^2+40x+25$	(1)
ד. $36x^2+24x+4$	ה. $49x^2+14xy+y^2$	ו. $25x^2+20xy+4y^2$	
ז. $x^4+14x+49$	ח. $x^4+2x^2y^2+y^4$	ט. $x^6+4x^4y^2+4y^4x^2$	
א. $x^2-12x+36$	ב. $x^2-4x+4$	ג. $25-10x+x^2$	(2)
ד. $36x^2-12x+1$	ה. $9x^2-3x+\frac{1}{4}$	ו. $\frac{1}{9}x^2-3\frac{1}{3}x+25$	
ז. $9m^2-12mn+4n^2$	ח. $x^4-\frac{6}{5}x^2y+\frac{9}{25}y^2$	ט. $x^4y^4-14x^2y^2+49$	
א. $x^2-25$	ב. $x^2-9$	ג. $9x^2-1$	(3)
ה. $\frac{1}{4}x^2-36$	ו. $25y^2-\frac{1}{16}x^2$	ז. $x^4-y^2$	
א. $x^2+2$	ב. $5x^2-24x+13$	ג. $-4x^2-x$	(4)
ד. $18x^2-6xy$	ה. $-6x^2-39x-16$	ו. $-10x^2+17x+321$	

## פירוק לגורמים של ביטויים אלגבריים:

### סיכום כללי:

פירוק לגורמים הוא פעולה הפוכה לפתיחת סוגריים – נרצה להוציא את הגורמים המשותפים לאיברים מחוץ לסוגריים.

- פירוק לגורמים ע"י הוצאת איבר אחד משותף:

○ הוצאת מספר משותף:  $2x - 8 = 2(x - 4)$

○ הוצאת אות משותפת:  $x^2 - 12x = x(x - 12)$

○ הוצאת מספר ואות יחד:  $3x^2 - 21x = 3x(x - 7)$

- פירוק לגורמים ע"י נוסחאות הכפל המקוצר:

○ נוסחת הבינום של ניוטון:  $a^2 \pm 2ab + b^2 = (a \pm b)^2$

○ נוסחה להפרש ריבועים:  $a^2 - b^2 = (a + b)(a - b)$

### שאלות:

- (1) פשט את הביטויים הבאים ע"י הוצאת גורם משותף:

א.  $3x - 12$       ב.  $6y - 4$

ג.  $20 - 8a$       ד.  $4a^3 + 8b$

ה.  $75m^2 + 25m + 15$       ו.  $40a^2 - 8b^2 + 64c^2$

- (2) פשט את הביטויים הבאים ע"י הוצאת גורם משותף:

א.  $y^2 + 5y$       ב.  $3x - 11x^3$

ג.  $6y^2 + 5y^3 + 4y$       ד.  $\frac{1}{2}a^7 - \frac{1}{4}a^5 + a^3$

3 פשט את הביטויים הבאים ע"י הוצאת גורם משותף :

א. $2x^2 - 8x$	ב. $3t^2 + 12t$
ג. $5n^3 - 20n^2 + 50n$	ד. $8y^2 + 6y^3 - 2y^4$
ה. $4x^2y^2 + 16x^2y - 20xy^2$	ו. $27mn - 3n^2m + 9n^3m$

4 פשט את הביטויים הבאים ע"י שימוש בנוסחאות הכפל המקוצר :

א. $x^2 + 10x + 25$	ב. $x^2 + 12x + 36$
ג. $y^2 - 18y + 81$	ד. $y^2 - 22y + 121$
ה. $4x^2 + 4x + 1$	ו. $16y^2 - 8y + 1$
ז. $9x^2 - 24x + 16$	ח. $25x^2 + 70x + 49$

5 פשט את הביטויים הבאים ע"י שימוש בנוסחאות הכפל המקוצר :

א. $r^2 - 25$	ב. $x^2 - 81$
ג. $25y^2 - 49$	ד. $121x^2 - 1$
ה. $x^2y^2 - 4$	ו. $9y^4 - 169x^4$

6 פשט את הביטויים הבאים ע"י הוצאת גורם משותף ונוסחאות הכפל המקוצר :

א. $y - y^3$	ב. $x^3 - 10x^2 + 25x$
ג. $m^4 - 1$	ד. $196x^4 - 140x^3 + 25x^2$

## תשובות סופיות:

- א.  $3(x-4)$     ב.  $2(3y-2)$     ג.  $4(5-2a)$     (1)
- ד.  $4(a^3+2b)$     ה.  $5(15m^2+5m+3)$     ו.  $8(5a^2-b^2+8c^2)$
- א.  $y(y+5)$     ב.  $x(3-11x^2)$     ג.  $y(6y+5y^2+4)$     (2)
- ד.  $a^3\left(\frac{1}{2}a^4-\frac{1}{4}a^2+1\right)$
- א.  $2x(x-4)$     ב.  $3t(t+4)$     ג.  $5n(n^2-4n+10)$     (3)
- ד.  $2y^2(4+3y-y^2)$     ה.  $4xy(xy+4x-5y)$     ו.  $3mn(9-n-3n^2)$
- א.  $(x+5)^2$     ב.  $(x+6)^2$     ג.  $(y-9)^2$     ד.  $(y-11)^2$     (4)
- ה.  $(2x+1)^2$     ו.  $(4y-1)^2$     ז.  $(3x-4)^2$     ח.  $(5x+7)^2$
- א.  $(r+5)(r-5)$     ב.  $(x+9)(x-9)$     ג.  $(5y+7)(5y-7)$     (5)
- ד.  $(11x+1)(11x-1)$     ה.  $(xy+2)(xy-2)$     ו.  $(3y^2+13x^2)(3y^2-13x^2)$
- א.  $y(1+y)(1-y)$     ב.  $x(x-5)^2$     ג.  $(m^2+1)(m+1)(m-1)$     (6)
- ד.  $x^2(14x-5)^2$

## פירוק הטרינום:

### סיכום כללי:

טרינום משמעו תלת איבר מהצורה:  $ax^2 + bx + c$  כאשר  $a, b$  ו- $c$  הם מספרים כלשהם.

שיטת הטרינום מאפשרת לפרק את תלת האיבר ל-4 איברים ע"י פיצול האיבר  $bx$  לשני איברים באופן כזה שמאפשר להוציא גורם משותף.

הכלל הוא למצוא שני מספרים,  $m_1$  ו- $m_2$ , שמקיימים:  $m_1 \cdot m_2 = ac$  ו- $m_1 + m_2 = b$ .  
לאחר מכן ניתן לפרק את הטרינום:  $ax^2 + bx + c = ax^2 + m_1x + m_2x + c$ .  
השלב האחרון הוא הוצאת גורם משותף מכל זוג:  $ax^2 + \underbrace{m_1x + m_2x} + c$ .

### הערה:

במקרה שנוסחת השורשים ידועה, ניתן להיעזר בה כדי למצוא את המספרים  $m_1$  ו- $m_2$  באופן

הבא:  $m_1 = \frac{-b + \sqrt{b^2 - 4ac}}{2a}$ ,  $m_2 = \frac{-b - \sqrt{b^2 - 4ac}}{2a}$  ולאחר מכן ניתן לכתוב את הטרינום

כמכפלה:  $ax^2 + bx + c = a(x - m_1)(x - m_2)$ . אם קיים פתרון (שורש) אחד  $m_1 = m_2 = \frac{-b}{2a}$  אז

נכתוב:  $ax^2 + bx + c = a(x - m_1)^2$  ואם לא קיימים פתרונות אז לא קיים פירוק כלל.

### שאלות:

(1) פרק את הביטויים הבאים לפי פירוק טרינום:

- |                     |                     |                     |
|---------------------|---------------------|---------------------|
| א. $x^2 + 5x + 4$   | ב. $x^2 - 8x + 15$  | ג. $x^2 - 33x + 62$ |
| ד. $2x^2 + 7x - 15$ | ה. $3x^2 - 11x + 6$ | ו. $6x^2 + 5x + 1$  |
| ז. $2x^2 + x - 6$   | ח. $x^2 - 18x + 81$ | ט. $x^2 + 2x + 8$   |

(2) פרק את הביטויים הבאים ע"י שימוש בנוסחת השורשים.

הערה: במידה ולא למדת על נוסחת השורשים התעלם משאלה זו.

- |                      |                    |
|----------------------|--------------------|
| א. $6x^2 + 5x + 1$   | ב. $x^2 + 5x + 4$  |
| ג. $4x^2 + 20x + 25$ | ד. $3x^2 - x + 20$ |

**תשובות סופיות:**

(1) א.  $(x+1)(x+4)$     ב.  $(x-3)(x-5)$     ג.  $(x-2)(x-31)$

ד.  $(2x-3)(x+5)$     ה.  $(3x-2)(x-3)$     ו.  $(3x+1)(2x+1)$

ז.  $(x+2)(2x-3)$     ח.  $(x-9)^2$     ט. אין פירוק.

(2) א.  $6\left(x+\frac{1}{3}\right)\left(x+\frac{1}{2}\right)$     ב.  $(x+1)(x+4)$     ג.  $(2x+5)^2$     ד. אין פירוק.

## שברים אלגברים:

### סיכום כללי:

#### הגדרה:

שבר אלגברי מורכב משתי תבניות, אשר אחת מחלקת את השנייה.

$$\text{דוגמא לשברים אלגבריים: } \frac{x+1}{x+2}, \frac{3x}{x^2+1}, \frac{4}{x-x^3}$$

במקרה בו המכנה הוא מספר, לא מדובר בשבר אלגברי מכיוון שניתן לכתוב את

$$\text{הביטוי ללא צורך בחילוק בין ביטויים שונים כגון: } \frac{3x+5}{4} = \frac{3}{4}x + \frac{5}{4}$$

#### תחום הגדרה של שבר:

היות ושבר אלגברי הוא תבנית אשר יכולה לקבל ערכים שונים בעת הצבות שונות, חשוב להגביל את המספרים שניתן להציב באופן כזה שלא תתקבל חלוקה באפס.

$$\text{דוגמא: השבר } \frac{1}{x+4} \text{ לא מוגדר כאשר } x = -4 \text{ מכיוון שמתקבל: } \frac{1}{0}$$

במקרים אלו נדרוש **תנאי** על המשתנה אשר יכתב באופן הבא:  $x \neq -4$  ומשמעו היא ש- $x$  יכול לקבל על ערך מספרי אפשרי למעט -4, מכיוון שבמקרה זה השבר לא מוגדר.

#### כלל צמצום שברים אלגברים:

ניתן לצמצם שברים אלגברים ע"י הבאת המונה והמכנה למכפלה של ביטויים. במידה וקיימות פעולות החיבור והחיסור בין איברים שונים לא ניתן לבצע צמצום של איברים דומים בין המונה והמכנה. להלן מספר דוגמאות הנוגעות לצמצומים:

$$\bullet \text{ צמצום ע"י הוצאת גורם משותף: } \frac{2x+8}{x+4} = \frac{2(x+4)}{x+4} = \frac{2 \cdot 1}{1} = 2$$

$$\bullet \text{ צמצום ע"י נוסחת כפל מקוצר: } \frac{3x-15}{x^2-10x+25} = \frac{3(x-5)}{(x-5)^2} = \frac{3 \cdot 1}{x-5} = \frac{3}{x-5}$$

$$\bullet \text{ צמצום ע"י פירוק טרינום: } \frac{x^2-2x-3}{x^2-3x-4} = \frac{(x+1)(x-3)}{(x+1)(x-4)} = \frac{x-3}{x-4}$$

## שאלות:

(1) מצא את תחום ההגדרה של השברים האלגבריים הבאים:

$\frac{5}{x-6}$ .ב.	$\frac{x+4}{x+3}$ .א.
$\frac{x^2+1}{x^2-4x}$ .ד.	$\frac{x+7}{2x-8}$ .ג.
$\frac{x^2}{x^2-4}$ .ו.	$\frac{3}{x^2+2x+1}$ .ה.
$\frac{8x-2}{3x^3-15x^2+12x}$ .ח.	$\frac{6}{y^4-y^2}$ .ז.

(2) צמצם את השברים הבאים (במידה ולא ניתן צמצם הסבר מדוע):

$\frac{a-x}{a}$ .ב.	$\frac{ax}{a}$ .א.
$\frac{x+1}{y+1}$ .ד.	$\frac{a-ax}{a}$ .ג.
$\frac{6x}{6y}$ .ו.	$\frac{x}{x+y}$ .ה.
$\frac{x^2+y^2}{x^2y^2}$ .ח.	$\frac{x^2y}{xy^2}$ .ז.
$\frac{3x^2}{x^2+3}$ .י.	$\frac{4x^2y}{xy}$ .ט.

(3) צמצם את השברים הבאים ע"י הוצאת גורם משותף וכתוב את תחום הגדרתם:

$\frac{m^2+4m}{4m+16}$ .ב.	$\frac{3x+12}{x+4}$ .א.
$\frac{x^2-5x}{15-3x}$ .ד.	$\frac{2a-12}{a^2-6a}$ .ג.
$\frac{4x^3-2x^2}{6x-3}$ .ו.	$\frac{3-18y^2}{6y^2-1}$ .ה.
$\frac{3z^3-12z^2+4z}{z^2+5z}$ .ח.	$\frac{3y}{y^3-3y^2}$ .ז.

4) צמצם את השברים הבאים ע"י פירוק לגורמים וכתוב את תחום הגדרתם:

$\frac{8n - n^2}{n^2 - 16n + 64} \quad \text{ב.}$	$\frac{x^2 + 10x + 25}{2x + 10} \quad \text{א.}$
$\frac{4m^2 + 20m + 25}{4m^2 + 10m} \quad \text{ד.}$	$\frac{z^3 - 4z^2}{2z^2 - 16z + 32} \quad \text{ג.}$
$\frac{a^3 + 4a^2b + 4ab^2}{3ab + 6b^2} \quad \text{ו.}$	$\frac{18y^2 - 24y + 8}{2y - 3y^2} \quad \text{ה.}$

5) צמצם את השברים הבאים ע"י טרינום ריבועי וכתוב את תחום הגדרתם:

$\frac{m^2 - 12m + 32}{m - 4} \quad \text{ב.}$	$\frac{x + 2}{x^2 - 3x - 10} \quad \text{א.}$
$\frac{3z^2 + 26z + 16}{3z + 2} \quad \text{ד.}$	$\frac{4y - 10}{2y^2 + y - 15} \quad \text{ג.}$
$\frac{9n^2 - 12n}{4 + 5n - 6n^2} \quad \text{ו.}$	$\frac{x^2 + 5x - 36}{x^3 + 9x^2} \quad \text{ה.}$
$\frac{x^2 - 14x + 49}{x^2 + x - 56} \quad \text{ח.}$	$\frac{x^2 + 4x + 4}{x^2 + 5x + 6} \quad \text{ז.}$
$\frac{m^3n - m^2n^2 - m^2 + mn}{2m^2n^3 + mn^2 - 3n} \quad \text{י.}$	$\frac{3a^2b - 10ab^2 + 3b^3}{-3a^3b + 11a^2b^2 - 6ab^3} \quad \text{ט.}$

## תשובות סופיות:

$$(1) \quad \text{א. } x \neq -3 \quad \text{ב. } x \neq 6 \quad \text{ג. } x \neq 4 \quad \text{ד. } x \neq 0, x \neq 4$$

$$\text{ה. } x \neq -1 \quad \text{ו. } x \neq -2, x \neq 2 \quad \text{ז. } y \neq 0, y \neq -1, y \neq 1$$

$$\text{ח. } x \neq 0, x \neq 1, x \neq 4$$

$$(2) \quad \text{א. } x \quad \text{ב. לא ניתן לצמצם} \quad \text{ג. } 1-x$$

$$\text{ד. לא ניתן לצמצם} \quad \text{ה. לא ניתן לצמצם} \quad \text{ו. } \frac{x}{y} \quad \text{ז. } \frac{x}{y}$$

$$\text{ח. לא ניתן לצמצם} \quad \text{ט. } 4x \quad \text{י. לא ניתן לצמצם}$$

$$(3) \quad \text{א. } x \neq -4, 3 \quad \text{ב. } \frac{m}{4}, m \neq -4 \quad \text{ג. } \frac{2}{a}, a \neq 0, 6$$

$$\text{ד. } -\frac{x}{3}, x \neq 5 \quad \text{ה. } -3, y \neq \pm \frac{1}{\sqrt{6}} \quad \text{ו. } \frac{2x^2}{3}, x \neq \frac{1}{2}$$

$$\text{ז. } \frac{3}{y(y-3)}, y \neq 0, 3 \quad \text{ח. } \frac{3z^2 - 12z + 4}{z+5}, z \neq 0, -5$$

$$(4) \quad \text{א. } \frac{x+5}{2}, x \neq -5 \quad \text{ב. } \frac{n}{8-n}, n \neq 8 \quad \text{ג. } \frac{z^2}{2(z-4)}, z \neq 4$$

$$\text{ד. } \frac{2m+5}{2m}, m \neq 0, -\frac{5}{2} \quad \text{ה. } \frac{2(2-3y)}{y}, y \neq 0, \frac{2}{3} \quad \text{ו. } \frac{a(a+2b)}{3b}, b \neq 0, a \neq -2b$$

$$(5) \quad \text{א. } \frac{1}{x-5}, x \neq 5, -2 \quad \text{ב. } m-8, m \neq 4 \quad \text{ג. } \frac{2}{y+3}, x \neq -3, \frac{5}{2}$$

$$\text{ד. } z+8, z \neq -\frac{2}{3} \quad \text{ה. } \frac{x-4}{x^2}, x \neq 0, -9 \quad \text{ו. } \frac{-3n}{2n+1}, n \neq -\frac{1}{2}, \frac{4}{3}$$

$$\text{ז. } \frac{x+2}{x+3}, x \neq -2, -3 \quad \text{ח. } \frac{x-7}{x+8}, x \neq 7, -8$$

$$\text{ט. } \frac{3a-b}{a(2b-3a)}, a \neq 0, b \neq 0, a \neq 3b, 2b \neq 3a \quad \text{י. } \frac{m(m-n)}{n(2mn+3)}, mn \neq 1, -\frac{3}{2}, n \neq 0$$

## כפל וחילוק של שברים אלגבריים:

### סיכום כללי:

כפל שברים יתבצע ע"י הכפלת כל מונה בנפרד והכפלת כל מכנה בנפרד.  
חילוק שברים יתבצע ע"י לקיחת ההופכי של שבר המחלק וביצוע פעולת כפל.

$$\bullet \text{ דוגמא לכפל שברים: } \frac{x+1}{x^2} \cdot \frac{x}{3x+3} = \frac{x+1}{x^2} \cdot \frac{x}{3(x+1)} = \frac{\cancel{x}(x+1)}{3x^{\cancel{2}}(x+1)} = \frac{1}{3x}$$

$$\bullet \text{ דוגמא לחילוק שברים: } \frac{4x}{y} : \frac{12}{y^2+y} = \frac{4x}{y} \cdot \frac{y^2+y}{12} = \frac{\cancel{4}x}{\cancel{12}} \cdot \frac{\cancel{y}(y+1)}{\cancel{12}} = \frac{x(y+1)}{3}$$

### שאלות:

(1) פשט את הביטויים הבאים:

$$\text{א. } \frac{x}{3} \cdot \frac{x}{8} \quad \text{ב. } \frac{x}{3} \cdot \frac{9}{x^2}$$

$$\text{ג. } 7y \cdot \frac{5}{y^2} \quad \text{ד. } 6x^2 \cdot \frac{3}{40x}$$

$$\text{ה. } (x^2+3x) \cdot \frac{2}{3x+9} \quad \text{ו. } (a^2-25) \cdot \frac{20}{5a+25}$$

$$\text{ז. } \frac{w^2-9}{w} \cdot \frac{w^2}{2w+6} \quad \text{ח. } \frac{y+4}{y^2+16} \cdot \frac{y^2-16}{2y+8}$$

$$\text{ט. } \frac{z^2+30z+225}{6z+90} \cdot \frac{12}{2z-10} \quad \text{י. } \frac{5n^2}{n^2-121} \cdot \frac{2n^2+44n+242}{n+2} \cdot \frac{n^2+4n+4}{n}$$

(2) פשט את הביטויים הבאים:

א. $\frac{x}{8} : \frac{x}{6}$	ב. $\frac{y}{25} : \frac{5}{y}$
ג. $a^2 : \frac{1}{6a}$	ד. $\frac{5}{6a} : a^2$
ה. $(d^2 - 3d) : \frac{5d - 15}{5d}$	ו. $\frac{t}{t+4} : \frac{3t}{t+4}$
ז. $\frac{y^2 + 8y + 16}{8y^2} : \frac{y^2 - 16}{7y^2}$	ח. $\frac{a^2 - 64}{a^2 - 36} : \frac{a+8}{a+6}$

תשובות סופיות:

א. $\frac{x^2}{24}$	ב. $\frac{3}{x}$	ג. $\frac{35}{y}$	ד. $\frac{9x}{20}$	ה. $\frac{2x}{3}$	(1)
ו. $4(a-5)$	ז. $\frac{w(w-3)}{2}$	ח. $\frac{y^2 - 16}{2y^2 + 32}$	ט. $\frac{z+15}{z-5}$	י. $\frac{10n(n+11)(n+2)}{n-11}$	
א. $\frac{3}{4}$	ב. $\frac{y^2}{125}$	ג. $6a^3$	ד. $\frac{5}{6a^3}$	ה. $d^2$	ו. $\frac{1}{3}$
ז. $\frac{7(y+4)}{8(y-4)}$	ח. $\frac{a-8}{a-6}$				

## חיבור וחיסור של שברים אלגבריים:

### סיכום כללי:

ביצוע פעולת החיבור והחיסור תתבצע באופן זהה לשברים מספריים. נרצה להרחיב את השברים כך שהמכנה של שניהם יהיה זהה, ולאחר מכן נחבר את המונים. כדי להרחיב את השברים נעזר בפעולת מציאת מכנה משותף. לשם כך נעזר בפירוקים השונים כדי להביא את הביטויים שבכל מכנה לצורתם המופשטת. דוגמא לחיבור שברים בעלי אותו מכנה:

$$\frac{1}{x} + \frac{x+1}{x} = \frac{1+(x+1)}{x} = \frac{x+2}{x}$$

דוגמא לחיבור מספר לשבר אלגברי:

$$2 + \frac{3}{x+2} = \frac{2(x+2)}{x+2} + \frac{3}{x+2} = \frac{2(x+2)+3}{x+2} = \frac{2x+7}{x+2}$$

דוגמא לחיבור שברים עם מכנים שונים (ע"י פעולת מכנה משותף):

$$\frac{1}{x+1} + \frac{1}{x} = \frac{x}{x(x+1)} + \frac{x+1}{x(x+1)} = \frac{x+x+1}{x(x+1)} = \frac{2x+1}{x(x+1)}$$

דוגמא לחיבור שברים ע"י שימוש בפירוק לגורמים (כדי למצוא מכנה משותף מינימלי):

$$\frac{1}{x^2-3x} + \frac{3}{x-3} = \frac{1}{x^2-3x} + \frac{3x}{x^2-3x} = \frac{1+3x}{x^2-3x}$$

דוגמא לחיבור שברים ע"י נוסחאות הכפל המקוצר (כדי למצוא מכנה משותף מינימלי):

$$\frac{3}{x^2-6x+9} - \frac{2}{x^2-9} = \frac{3}{(x-3)^2} - \frac{2}{(x-3)(x+3)} = \frac{3(x+3)-2(x-3)}{(x-3)^2(x+3)} = \frac{x+15}{(x-3)^2(x+3)}$$

## שאלות:

(1) פשט את הביטויים הבאים:

א.  $\frac{a}{6} + \frac{a-5}{6}$

ג.  $\frac{x-2}{x+1} + \frac{3+4x}{x+1}$

ב.  $\frac{5}{x} + \frac{4x+3}{x}$

ד.  $\frac{7z}{2z-3} - \frac{4z}{2z-3} - \frac{z+3}{2z-3}$

(2) פשט את הביטויים הבאים:

א.  $\frac{1}{ab} - \frac{5}{bc}$

ג.  $\frac{c}{ab} - \frac{ad}{bc} + \frac{2b}{cd}$

ב.  $\frac{1}{xy} + \frac{5}{yz} + \frac{4}{xz}$

ד.  $-\frac{5}{x} + \frac{x+1}{xy^2}$

ה.  $\frac{1}{(y+1)^2} + \frac{3}{y+1}$

ו.  $\frac{3}{z(z-3)} - \frac{2}{z(z-2)}$

(3) פשט את הביטויים הבאים:

א.  $1 - \frac{2}{x}$

ג.  $2 + \frac{2}{x+1}$

ב.  $1 + \frac{3}{y^2}$

ד.  $3 - \frac{1}{x} + \frac{1}{3x}$

ה.  $\frac{a+1}{a^2} - \frac{3-a}{4a} - 3$

ו.  $\frac{x}{9yz} + \frac{z}{3y^2x} + \frac{3-y}{12xz} - 3\frac{1}{2}$

(4) פשט את הביטויים הבאים:

א.  $\frac{3}{x+1} + \frac{1}{x}$

ג.  $\frac{a+1}{a+2} + \frac{3}{a}$

ב.  $\frac{4}{y+2} - \frac{3}{y}$

ד.  $\frac{1}{z+3} + \frac{2}{3z} - \frac{3}{z}$

5 פשט את הביטויים הבאים:

$$\frac{3}{x^2-16} + \frac{2}{(x+4)^2} \quad \text{ב.}$$

$$\frac{24}{a^2-9} + \frac{4}{a+3} \quad \text{א.}$$

$$\frac{3z}{z^2+4z+3} - \frac{z+0.5}{z^2+2z+1} \quad \text{ד.}$$

$$\frac{y}{(y-2)^2} + \frac{3y}{4-y^2} \quad \text{ג.}$$

$$\frac{2a+3}{2a^2+15a+7} + \frac{a+3}{a^2+14a+49} \quad \text{ו.}$$

$$\frac{x-1}{x^2+3x-40} + \frac{2}{-x^2+8x-15} \quad \text{ה.}$$

$$\frac{1}{a-b} + \frac{2}{a+2b} - \frac{3b}{a^2+ab-2b^2} \quad \text{ח.}$$

$$\frac{x}{x-3} + \frac{9-x}{x^2-8x+15} \quad \text{ז.}$$

6 פשט את הביטויים הבאים:

$$\left(\frac{2}{x}+1\right) \cdot \frac{x^2}{7x+14} \quad \text{ב.}$$

$$\frac{4}{x} \cdot \frac{x^2}{8} + \frac{9}{x+1} \cdot \frac{x+1}{18} \quad \text{א.}$$

$$\left(3x - \frac{2}{x^2} + \frac{1}{x}\right) : \frac{6x^3+2x-4}{x^2} \quad \text{ד.}$$

$$\frac{7}{y^2} : \frac{6}{y^3} - \frac{y-4}{63} \cdot \frac{3y-4}{y^2-8y+16} \quad \text{ג.}$$

$$\left(\frac{2x+1}{20x^2-28x-3} - \frac{3x+1}{30x^2-17x-2}\right) : \frac{18x+3}{6x^2-13x+6} \quad \text{ה.}$$

## תשובות סופיות:

$$(1) \quad \begin{array}{lll} \text{א.} & \frac{2a-5}{6} & \text{ב.} & \frac{4x+8}{x} & \text{ג.} & \frac{5x+1}{x+1} & \text{ד.} & 1 \end{array}$$

$$(2) \quad \begin{array}{lll} \text{א.} & \frac{c-5a}{abc} & \text{ב.} & \frac{z+5x+4y}{xyz} & \text{ג.} & \frac{c^2d - a^2d^2 + 2ab^2}{abcd} \end{array}$$

$$\begin{array}{lll} \text{ד.} & \frac{-5y^2 + x + 1}{xy^2} & \text{ה.} & \frac{3y+4}{(y+1)^2} & \text{ו.} & \frac{1}{(z-2)(z-3)} \end{array}$$

$$(3) \quad \begin{array}{lll} \text{א.} & \frac{x-2}{x} & \text{ב.} & \frac{y^2+3}{y^2} & \text{ג.} & \frac{2x+4}{x+1} \end{array}$$

$$\begin{array}{lll} \text{ד.} & \frac{9x-2}{3x} & \text{ה.} & \frac{-11a^2 + a + 4}{4a^2} & \text{ו.} & \frac{4x^2y + 12z^2 + 9y^2 - 3y^3 - 126xy^2z}{36xy^2z} \end{array}$$

$$(4) \quad \begin{array}{lll} \text{א.} & \frac{4x+1}{x(x+1)} & \text{ב.} & \frac{y-6}{y(y+2)} & \text{ג.} & \frac{a^2 + 4a + 6}{a(a+2)} \end{array}$$

$$\text{ד.} \quad \frac{4z+21}{3z(z+3)}$$

$$(5) \quad \begin{array}{lll} \text{א.} & \frac{4}{a-3} & \text{ב.} & \frac{5x+4}{(x-4)(x+4)^2} & \text{ג.} & \frac{2y(4-y)}{(y-2)^2(y+2)} \end{array}$$

$$\begin{array}{lll} \text{ד.} & \frac{(4z+3)(z-1)}{2(z+1)^2(z+3)} & \text{ה.} & \frac{x^2 - 6x - 13}{(x+8)(x-5)(x-3)} & \text{ו.} & \frac{4(a^2 + 6a + 6)}{(a+7)^2(2a+1)} \end{array}$$

$$\begin{array}{ll} \text{ז.} & \frac{x-3}{x-5} \\ \text{ח.} & \frac{3}{a+2b} \end{array}$$

$$(6) \quad \begin{array}{lll} \text{א.} & \frac{x+1}{2} & \text{ב.} & \frac{x}{7} & \text{ג.} & \frac{147y^2 - 594y + 8}{126(y-4)} & \text{ד.} & \frac{1}{2} & \text{ה.} & \frac{1}{3(10x+1)} \end{array}$$

## שברים כפולים:

### סיכום כללי:

שבר כפול מורכב באופן הבא:  $\frac{\frac{a}{b}}{\frac{c}{d}}$  כאשר מתקיים:  $\frac{\frac{a}{b}}{\frac{c}{d}} = \frac{a}{b} \cdot \frac{d}{c} = \frac{ad}{bc}$

נובע מכאן כי ניתן לצמצם ביטויים בין שני המכנים או שני המונים בלבד.

### שאלות:

פשט את הביטויים הבאים:

$\frac{y+1}{2y+2} \quad (2)$	$\frac{4x}{12} \quad (1)$
$\frac{5}{t^2-81}$	$\frac{x}{5}$
$\frac{9t^2}{6t+54} \quad (4)$	$\frac{t}{30t^2} \quad (3)$
$\frac{4x}{x+1} \quad (6)$	$\frac{3y^3-y^2}{25} \quad (5)$
$\frac{x^2+2x+1}{t^2-t-20}$	$\frac{y^2}{3-y}$
$\frac{16t+8}{25-t^2} \quad (8)$	$\frac{8c^2}{3c^3-9c^2-12c} \quad (7)$
$\frac{2t+1}{x^2+2x+1}$	$\frac{15c+15}{1-4+\frac{x}{x+1}} \quad (9)$
	$\frac{1-3x(x+1)}{5x+5}$

## תשובות סופיות:

$$\frac{x^2}{3} \quad (1)$$

$$2.5 \quad (2)$$

$$\frac{1}{6t^3} \quad (3)$$

$$\frac{t-9}{54t^2} \quad (4)$$

$$\frac{(3y-1)(3-y)}{25} \quad (5)$$

$$\frac{x(x+1)}{2} \quad (6)$$

$$\frac{c}{c-4} \quad (7)$$

$$\frac{t+4}{-8(t+5)} \quad (8)$$

$$\frac{5}{x} \quad (9)$$

# קורס מתמטיקה להנדסאי טכנולוגיות מים

## פרק 2 - משוואות אלגבריות

### תוכן העניינים

47	1. משוואות ממעלה ראשונה
49	2. מערכת שתי משוואות בשני נעלמים ממעלה ראשונה
52	3. משוואות עם אינסוף פתרונות וללא פתרון
53	4. משוואה ממעלה שנייה
55	5. משוואות דו-ריבועיות
57	6. משוואות עם פרמטרים
59	7. משוואות עם שורשים
61	8. משוואות עם ערך מוחלט
62	9. מערכת משוואות ממעלה שנייה
64	10. משוואות מתקדמות מסכמות
67	11. פישוט ביטויים ומשוואות ממעלה שלישית

## משוואה ממעלה ראשונה:

### סיכום כללי:

משוואה ממעלה ראשונה היא מהצורה:  $ax = b$  (כלומר, החזקה של הנעלם היא 1).

פתרון של משוואה ממעלה ראשונה הוא  $x = \frac{b}{a}$  כאשר  $a \neq 0$ .

שלבי הפתרון הם:

1. ביצוע מכנה משותף (במידה וצריך).
2. פתיחת סוגריים אם ישנם.
3. העברת אגפים וכינוס אברים דומים (בידוד הנעלם באגף אחד והמספרים באגף שני).
4. בידוד הנעלם ומציאתו ע"י חילוק במקדם שלו.

### שאלות:

(1) פתור את המשוואות הבאות (משוואות יסודיות ממעלה ראשונה):

- |                             |                                       |
|-----------------------------|---------------------------------------|
| א. $6x + 2 = 8$             | ב. $7 - 2x = 7$                       |
| ג. $2x + x = 24$            | ד. $2x + 6 = 8 + x$                   |
| ה. $-7x + 5 + 2x = 4x - 13$ | ו. $6x - 3 + 5 - 7x = x - 5x - 7$     |
| ז. $2 - 5x + 7 = -3x + 8$   | ח. $x - 2 + 5x = 4 - 3x - 5 + 7x + 7$ |

(2) פתור את המשוואות הבאות (משוואות עם פתיחת סוגריים):

- |                              |                                     |
|------------------------------|-------------------------------------|
| א. $3(x - 1) - 4 = 2$        | ב. $7x - 4(3 - 4x) = -x$            |
| ג. $6(4 - x) - (6 - x) = 3x$ | ד. $5x - (3x - 7)4 = 21$            |
| ה. $x(x - 5) = x^2 - 7x + 8$ | ו. $(7 - x)(1 - x) - (x - 3)^2 = 0$ |

3) פתור את המשוואות הבאות (משוואות עם מכנה מספרי):

$$\begin{array}{ll}
 \text{א. } \frac{x}{3} - \frac{x}{9} = -4 & \text{ב. } \frac{4x}{15} - \frac{3x}{10} = 1 \\
 \text{ג. } \frac{2}{3}x + \frac{4}{5}x = x - \frac{7}{15} & \text{ד. } \frac{5x+1}{6} - \frac{6x-1}{5} = \frac{3x+1}{4} - 1 \\
 \text{ה. } \frac{2}{5}(x-3) - \frac{3}{15}(4-x) = x+2 & \text{ו. } 5\left(\frac{x}{3} - \frac{x}{7}\right) - x = 1
 \end{array}$$

4) פתור את המשוואות הבאות (משוואות עם נעלם במכנה):

$$\begin{array}{ll}
 \text{א. } \frac{1}{4} - \frac{2}{x} = 0 & \text{ב. } \frac{1}{2} - \frac{x}{x-1} = 0 \\
 \text{ג. } \frac{3}{x} = \frac{1}{x+2} & \text{ד. } \frac{5}{2x-1} = \frac{4}{3x+2} \\
 \text{ה. } \frac{x+5}{3x^2} - \frac{1}{6x} = \frac{1}{x} & \text{ו. } \frac{1}{4x} + \frac{3}{x} = \frac{13}{2}
 \end{array}$$

5) פתור את המשוואות הבאות (משוואות עם מכנה משותף ע"י פירוק לגורמים):

$$\begin{array}{ll}
 \text{א. } \frac{x^2+2}{3x^2+5x} = \frac{3x-1}{9x+15} & \text{ב. } \frac{7}{x^2-1} + \frac{2}{x+1} + \frac{3}{2-2x} = 0 \\
 \text{ג. } \frac{3}{(2-x)^2} + \frac{5}{12-3x^2} = 0 & \text{ד. } \frac{4x^2-24x+36}{x-3} = 12
 \end{array}$$

### תשובות סופיות:

- 1) א.  $x=1$     ב.  $x=0$     ג.  $x=8$     ד.  $x=2$     ה.  $x=2$     ו.  $x=-3$
- ז.  $x=\frac{1}{2}$     ח.  $x=4$
- 2) א.  $x=3$     ב.  $x=\frac{1}{2}$     ג.  $x=2\frac{1}{4}$     ד.  $x=1$     ה.  $x=4$     ו.  $x=-1$
- 3) א.  $x=-18$     ב.  $x=-30$     ג.  $x=-1$     ד.  $x=1$     ה.  $x=-10$     ו.  $x=-21$
- 4) א.  $x=8$     ב.  $x=-1$     ג.  $x=-3$     ד.  $x=-2$     ה.  $x=2$     ו.  $x=\frac{1}{2}$
- 5) א.  $x=-6$     ב.  $x=-7$     ג.  $x=-7$     ד.  $x=6, x \neq 3$

## מערכת שתי משוואות בשני נעלמים ממעלה ראשונה:

סיכום כללי:

הגדרה:

מערכת שתי משוואות בשני נעלמים ממעלה ראשונה (ליניאריות) היא מהצורה הבאה:

$$\begin{cases} a_1x + b_1y = c_1 \\ a_2x + b_2y = c_2 \end{cases}$$

כאשר  $a_1, b_1, c_1$  ו- $a_2, b_2, c_2$  הם מקדמים מספריים.

$$\cdot \begin{cases} y = 3x - 1 \\ \frac{x + 3}{2} = y + 6 \end{cases}, \begin{cases} x + y = 3 \\ 2x - y = 1 \end{cases} : \text{דוגמאות למערכות של משוואות}$$

פתרון של מערכת משוואות:

פתרון של מערכת המשוואות הוא זוג סדור המקיים את כל המשוואות שבמערכת.

הצגה גרפית של מערכת משוואות:

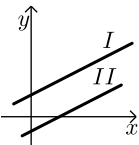
פתרון גרפי של מערכת משוואות הוא נקודת החיתוך של הישרים המייצגים כל משוואה.

יתכנו שלושה מצבים הדדיים בין שני ישרים:



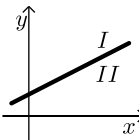
- הישרים נחתכים:

במקרה זה נקודת החיתוך תהיה פתרון המערכת.



- הישרים מקבילים:

במקרה זה לא יהיה פתרון למערכת.



- הישרים מתלכדים:

במקרה זה יהיו אינסוף פתרונות למערכת המשוואות.

### פתרון אלגברי של מערכת משוואות:

- פתרון ע"י שיטת ההצבה :  
נבודד את אחד הנעלמים ממשוואה אחת ונציב אותו במשוואה השנייה.  
נבחר בשיטה זו במקרים בהם קל לבודד נעלם באחת המשוואות.
  - פתרון ע"י השוואת מקדמים :
1. כופלים (או מחלקים) משוואה אחת (או שתיהן) במספר השונה מאפס כך שתתקבלנה משוואות שקולות בעלות מקדמים נגדיים או זהים עבור אחד המשתנים.
  2. מחברים (או מחסרים) את המשוואות ומקבלים משוואה חדשה עם נעלם אחד.
  3. מוצאים את ערך הנעלם מהמשוואה החדשה ומציבים אותו באחת המשוואות המקוריות למציאת ערך הנעלם השני.

### הערה:

נוח להשתמש בשיטת השוואת המקדמים ע"י כך שמעבירים את המערכת הנתונה למערכת שקולה שבה המשתנים באגף אחד והמספר החופשי באגף השני.

### שאלות:

#### 1) פתור את המשוואות הבאות :

$$\begin{array}{lll} \left\{ \begin{array}{l} -3x + 2y = -16 \\ x = 5y + 14 \end{array} \right. \text{ג.} & \left\{ \begin{array}{l} y = x - 3 \\ y = 2x + 4 \end{array} \right. \text{ב.} & \left\{ \begin{array}{l} 3x + y = 11 \\ y = 5 \end{array} \right. \text{א.} \\ \left\{ \begin{array}{l} 2x + 3y = 5 \\ 5x + 7y = 11 \end{array} \right. \text{ו.} & \left\{ \begin{array}{l} -5x + 7y = -26 \\ x + 3y = -8 \end{array} \right. \text{ה.} & \left\{ \begin{array}{l} 5x - 2y = -2 \\ x + 4y = 4 \end{array} \right. \text{ד.} \end{array}$$

#### 2) פתור את המשוואות הבאות :

$$\begin{array}{ll} \left\{ \begin{array}{l} 5x + 2y = 14 \\ 5x + 3y = 23 \end{array} \right. \text{ב.} & \left\{ \begin{array}{l} x + 3y = 5 \\ x - 3y = 3 \end{array} \right. \text{א.} \\ \left\{ \begin{array}{l} 4x = 3y - 29 \\ 5y = 9 - 13x \end{array} \right. \text{ד.} & \left\{ \begin{array}{l} 5y = 2x \\ 4x = 5y + 8 \end{array} \right. \text{ג.} \end{array}$$

#### 3) פתור את המשוואות הבאות :

$$\left\{ \begin{array}{l} 2(x - y) + 4y = 1 + x \\ 2 - 7y + x = 3(x - y) \end{array} \right. \text{ב.} \quad \left\{ \begin{array}{l} x + 2y = 1 \\ 4x + 8y = 5 \end{array} \right. \text{א.}$$

4 פתור את המשוואות הבאות :

$$\begin{cases} \frac{x-3}{8} - \frac{x+y}{16} = \frac{y-1}{4} & \text{ב.} \\ 3(2x-y) - 4x - 11 = 0 \end{cases}$$

$$\begin{cases} 3y - x + 2 = 4x + 2 - 3y & \text{א.} \\ 2x - 3 - y = 5y - 4x + 3 \end{cases}$$

$$\begin{cases} \frac{3x-1}{4} - \frac{2}{5}(x-y) = \frac{3}{10}(x+3) & \text{ג.} \\ \frac{x+1}{4} - \frac{y}{2} = 1 \end{cases}$$

5 פתור את המשוואות הבאות :

$$\begin{cases} 4x - \frac{7}{y} = -3 & \text{ג.} \\ 5x + \frac{2}{y} = 7 \end{cases}$$

$$\begin{cases} \frac{3}{x} + \frac{3}{y} = 2 & \text{ב.} \\ \frac{9}{x} - \frac{4}{y} = -7 \end{cases}$$

$$\begin{cases} \frac{3}{x} + \frac{1}{y} = 4 & \text{א.} \\ \frac{5}{x} - \frac{1}{y} = 4 \end{cases}$$

6 פתור את המשוואות הבאות :

$$\begin{cases} xy = 20 & \text{ב.} \\ y(3x-4) = 20 \end{cases}$$

$$\begin{cases} x(y+2) + y = xy - 5 & \text{א.} \\ x - y = 2 \end{cases}$$

$$\begin{cases} 5x - 4xy = 22 & \text{ג.} \\ 6x + xy = -20 \end{cases}$$

### תשובות סופיות:

1 א. (2,5) ב. (-7,-10) ג. (4,-2) ד. (0,1) ה. (1,-3) ו. (-2,3)

2 א.  $(4, \frac{1}{3})$  ב.  $(-\frac{4}{5}, 9)$  ג. (4,1.6) ד. (-2,7)

3 א. אין פתרון. ב. אינסוף פתרונות.

4 א. (6,5) ב. (7,1) ג. (7,2)

5 א. (1,1) ב. (-3,1) ג. (1,1)

6 א. (-1,-3) ב. (2,10) ג. (-2,4)

## משוואות עם אינסוף פתרונות וללא פתרון:

### סיכום כללי:

#### משוואה ממעלה ראשונה:

למשוואה ממעלה ראשונה מהצורה:  $ax = b$  יתכן פתרון יחיד אם ורק אם  $a \neq 0$  מכיוון שניתן לחלק ולכתוב:  $x = \frac{b}{a}$ .

כאשר  $a = 0$  מתקבלת המשוואה  $0 \cdot x = b$  ויתכנו שני מצבים:

1. אם  $b = 0$  את המשוואה היא  $0x = 0$  ויש אינסוף פתרונות המקיימים אותה.
2. אם  $b \neq 0$  את המשוואה היא  $0x = b \neq 0$  ואין אף ערך של  $x$  המקיים אותה.

### שאלות:

פתור את המשוואות הבאות:

$$x + 4 = 6 + x \quad (1) \qquad 3x + 6 - x = 4 + 2x + 2 \quad (2)$$

$$6(x - 2) = 2x + 5 + 4x \quad (3) \qquad 5x - 3 + x = 4x + 2x - 3 \quad (4)$$

$$(5) \quad \text{נתונה המשוואה: } 3 - 2(x + 2) = 5x + \square$$

- א. איזה מספר יש להציב ב- $\square$  על מנת שפתרון המשוואה יהיה 1?
- ב. איזה מספר יש להציב ב- $\square$  על מנת שפתרון המשוואה יהיה 0?
- ג. מצא ביטוי אלגברי שיש להציב ב- $\square$  על מנת שלמשוואה יהיו אינסוף פתרונות.
- ד. מצא ביטוי אלגברי שיש להציב ב- $\square$  על מנת שלמשוואה לא יהיה פתרון.

### תשובות סופיות:

- (1) אף פתרון.
- (2) אינסוף פתרונות.
- (3) אין פתרון.
- (4) אינסוף פתרונות.
- (5) א. -8      ב. -1      ג.  $-7x - 1$   
 ד.  $-7x + k$  כאשר  $k$  הוא מספר כלשהו השונה מ-1.

## משוואה ממעלה שנייה:

### סיכום כללי:

משוואה מהצורה:  $ax^2 + bx + c = 0$  ( $a \neq 0$ ), נקראת משוואה ריבועית. פתרונות המשוואה יסומנו ב-  $x_1$  ו-  $x_2$  ויחושבו לפי נוסחת השורשים:

$$x_{1,2} = \frac{-b \pm \sqrt{b^2 - 4ac}}{2a}$$

למשוואה ריבועית יתכנו שלושה סוגים של פתרונות:

- משוואה עם שני פתרונות ממשיים שונים.**  
 אם מתקבל מספר חיובי בתוך השורש שבנוסחת השורשים אזי למשוואה יהיו שני פתרונות ממשיים שונים.  
 דוגמא:  $x^2 + 5x - 4 = 0$ .
- משוואה עם פתרון ממשי אחד בלבד.**  
 אם מתקבל אפס בתוך השורש שבנוסחת השורשים אזי למשוואה יהיה פתרון ממשי אחד בלבד.  
 דוגמא:  $x^2 + 4x + 4 = 0$ .
- משוואה ללא פתרונות ממשיים כלל.**  
 אם מתקבל מספר שלילי בתוך השורש שבנוסחת השורשים אזי למשוואה לא יהיו פתרונות ממשיים כלל.  
 דוגמא:  $x^2 + x + 4 = 0$ .

### שאלות:

(1) פתור את המשוואות הבאות:

ב.  $-x^2 + 10x - 16 = 0$

ד.  $2x^2 - 6x + 5 = 0$

א.  $x^2 + 3x - 10 = 0$

ג.  $25x^2 - 20x + 4 = 0$

(2) פתור את המשוואות הבאות:

ב.  $-x(x-5) = (1-3x)(1-x) + 4$

ד.  $(2x-1)^2 + x(2x+3) = (x-1)(x-7)$

א.  $4x^2 - 5x + 7 = 4 - x^2 + 13$

ג.  $2(x-5)^2 - (2x-3)^2 = 10x + 21$

(3) פתור את המשוואות הבאות (משוואה חסרת  $b$ ):

$$\begin{array}{ll} \text{א.} & x^2 - 36 = 0 \\ \text{ב.} & 32x^2 - 18 = 0 \\ \text{ג.} & 4x - x(x+2) = 3(x-1) - x - 6 \\ \text{ד.} & (2x-1)^2 + (2x+1)^2 = 10 \end{array}$$

(4) פתור את המשוואות הבאות (משוואה חסרת  $c$ ):

$$\begin{array}{ll} \text{א.} & -7x^2 - 14x = 0 \\ \text{ב.} & 5x^2 - x = 0 \\ \text{ג.} & 6x(x-2) - 1 = 4x - 3(x+1) + 2 \\ \text{ד.} & (5x-2)^2 = (x-2)(x+3) + 10 \end{array}$$

(5) פתור את המשוואות הבאות:

$$\begin{array}{ll} \text{א.} & \frac{4x+1}{3} - \frac{x+2}{2} = \frac{2}{x} \\ \text{ב.} & \frac{x^2-9}{x+3} + x = x^2 - 18 \\ \text{ג.} & \frac{3}{2x+2} - \frac{2x-5}{2(x-1)^2} - \frac{4}{1-x^2} = 0 \\ \text{ד.} & \frac{x}{2x^2-72} + \frac{2}{x^2+12x+36} = \frac{8x-15}{24-4x} + 2 \end{array}$$

### תשובות סופיות:

$$\begin{array}{ll} \text{(1)} & \text{א. } x_1 = 2, x_2 = -5 \quad \text{ב. } x_1 = 2, x_2 = 8 \\ & \text{ג. } x = \frac{2}{5} \quad \text{ד. אין פתרון.} \\ \text{(2)} & \text{א. } x_1 = 2, x_2 = -1 \quad \text{ב. } x_1 = 1, x_2 = 1\frac{1}{4} \\ & \text{ג. } x_1 = 1, x_2 = -10 \quad \text{ד. } x_1 = 0.6, x_2 = -2 \\ \text{(3)} & \text{א. } x = \pm 6 \quad \text{ב. } x = \pm \frac{3}{4} \\ & \text{ג. } x = \pm 3 \quad \text{ד. } x = \pm 1 \\ \text{(4)} & \text{א. } x_1 = 0, x_2 = -2 \quad \text{ב. } x_1 = 0, x_2 = \frac{1}{5} \\ & \text{ג. } x_1 = 0, x_2 = 2\frac{1}{6} \quad \text{ד. } x_1 = 0, x_2 = \frac{7}{8} \\ \text{(5)} & \text{א. } x_1 = 2, x_2 = -1.2 \quad \text{ב. } x = 5, x \neq -3 \\ & \text{ג. } x_1 = 0, x_2 = -5 \quad \text{ד. } x_1 = -7.6, x_2 = -4\frac{2}{7} \end{array}$$

## משוואות דו-ריבועיות:

### סיכום כללי:

משוואה דו-ריבועית היא משוואה מהצורה:  $ax^4 + bx^2 + c = 0$  כאשר הנעלם הוא  $x$ .  
 פתרון המשוואה יבוצע ע"י מעבר לפרמטר:  $x^2 = t \rightarrow at^2 + bt + c = 0$  ומציאתו.  
 לאחר מכן יש להחזיר את ההצבה ולמצוא את ערכי  $x$ .

ניתן להביא משוואות לצורה זו ולהגדיר ביטוי המופיע בחזקות 2 ו-4 כגון:  
 $t = x^2 - 1$  : באמצעות פרמטר  $(x^2 - 1)^2 + 3(x^2 - 1) - 2 = 0$   
 ובכך לפתור משוואה:  $t^2 + 3t - 2 = 0$  ולהחזיר את ההצבה עבור מציאת  $x$ .  
 דרך הפתרון תקפה לכל משוואה בה הנעלם מופיע בחזקות כפולות כגון 3 ו-6, או 4 ו-8.

### שאלות:

פתור את המשוואות הבאות:

$$x^4 - 3x^2 + 2 = 0 \quad (2) \qquad 5x^4 + 3x^2 - 8 = 0 \quad (1)$$

$$x^2(x^2 + 1) = 10(3x^2 - 10) \quad (4) \qquad 13x^2(3x^2 - 1) - 2 = 3(x^2 - 1)(x^2 + 1) \quad (3)$$

$$x^3 + 4 = \frac{32}{x^3} \quad (6) \qquad x^6 + x^3 = 56 \quad (5)$$

$$x^8 - 4x^4 - 50 = 31x^4 - 84 \quad (8) \qquad x - 9\sqrt{x} + 14 = 0 \quad (7)$$

$$(2x^2 - x)^2 - 4(2x^2 - x) + 3 = 0 \quad (10) \qquad 125x^6 - 1 = 124(x^6 + x^3 + 1) \quad (9)$$

$$\frac{21}{x^2 - 4x + 10} = 6 + x^2 - 4x \quad (12) \qquad (x^2 + 2x)^2 + 7x^2 + 14x = -6 \quad (11)$$

$$\frac{x^2 + 2x + 2}{x^2 + 2x + 3} = \frac{7}{6} - \frac{x^2 + 2x + 1}{x^2 + 2x + 2} \quad (14) \qquad \frac{12}{x^2 + 2x - 8} = 1 + \frac{7.5}{x^2 + 2x - 3} \quad (13)$$

$$\frac{x^2 - 1}{4x^2 - 28} + 2 = \frac{9}{x^4 - 8x^2 + 7} + \frac{x^2}{2x^2 - 2} \quad (16) \qquad \frac{3}{3x^2 - 15} + \frac{1}{x^2 + 5} = \frac{10}{x^4 - 25} \quad (15)$$

$$\frac{3x^4}{(x+2)^2} + \frac{3x^2}{x+2} = 6 \quad (18) \qquad \left(2x + \frac{3}{x}\right)^2 + 35 = 12\left(2x + \frac{3}{x}\right) \quad (17)$$

$$(x^2 - 5x + 6)(x^2 - 5x - 8) = -24 \quad (20) \qquad (2x - x^2 + 3)(2x - x^2 - 2) = 0 \quad (19)$$

**תשובות סופיות:**

$$x = \pm 1 \quad (1)$$

$$x = \pm 1, \pm \sqrt{2} \quad (2)$$

$$x = \pm \frac{1}{2}, \pm \frac{1}{3} \quad (3)$$

$$x = \pm 2, \pm 5 \quad (4)$$

$$x_1 = \sqrt[3]{7}, x_2 = -2 \quad (5)$$

$$x = -2, \sqrt[3]{4} \quad (6)$$

$$x_1 = 4, x_2 = 49 \quad (7)$$

$$x_{1,2} = \pm \sqrt[4]{34}, x_{3,4} = \pm 1 \quad (8)$$

$$x = 5, -1 \quad (9)$$

$$x_1 = 1.5, x_2 = -1, x_3 = 1, x_4 = -\frac{1}{2} \quad (10)$$

$$x = -1 \quad (11)$$

$$x_{1,2} = 1, 3 \quad (12)$$

$$x_1 = 0, x_2 = -2, x_3 = 3.06, x_4 = -5.06 \quad (13)$$

$$x_1 = 0, x_2 = -2 \quad (14)$$

(15) אין פתרונות.

$$x = \pm \sqrt{\frac{3}{7}} \quad (16)$$

$$x = \frac{1}{2}, 1, \frac{3}{2}, 3 \quad (17)$$

$$x = -1, 2 \quad (18)$$

$$x = 3, -1 \quad (19)$$

$$x = \pm 1, 4, 6 \quad (20)$$

## משוואות עם פרמטרים:

### סיכום כללי:

משוואה עם פרמטר הינה משוואה שמכילה שני סוגים של גדלים – משתנים ופרמטרים. את המשתנים מקובל לסמן באותיות  $x$ ,  $y$ ,  $z$  ואת הפרמטרים מסמנים בשאר האותיות. פתרון המשוואה יתקבל ע"י בידוד המשתנה כך שיבוטא באמצעות הפרמטרים שבמשוואה.

למשל פתרון המשוואה:  $mx=4$  (כאשר  $x$  הוא הנעלם ו- $m$  הוא פרמטר) הוא  $x = \frac{4}{m}$

אשר מבוטא באמצעות הפרמטר  $m$ .

בכתיבת פתרון של משוואה עם פרמטרים יש לציין את תחום ההגדרה של הפרמטר עבורו הפתרון הוא בעל משמעות. בדוגמא הנ"ל תחום ההגדרה הוא  $m \neq 0$ .

### שאלות:

(1) פתור את המשוואות הבאות:

$$\text{א. } 3x - b = (b + 1)x - 6 \quad \text{ב. } \frac{1}{3}(a - 3x) = \frac{1}{a}(ax - 3)$$

$$\text{ג. } (x - 2a)(x - 2b) = x^2 - 2(a^2 + b^2) \quad \text{ד. } \frac{m+1}{x-1} = \frac{m-1}{x+1}$$

$$\text{ה. } \frac{x}{a^2 - a} - \frac{1}{2a} = \frac{ax + x}{2a^3 - 4a^2 + 2a} - \frac{2}{a^3 - 2a^2 + a}$$

(2) פתור את מערכות המשוואות הבאות:

$$\text{א. } \begin{cases} x + my = 1 \\ x + y = m \end{cases} \quad \text{ב. } \begin{cases} ax + y = 2 \\ x + ay = 4 \end{cases}$$

$$\text{ג. } \begin{cases} \frac{x}{m} + y = m \\ x - m^2 y = 1 \end{cases} \quad \text{ד. } \begin{cases} (m-1)x - (2m+3)y = 5 \\ (m+2)x - (2m-1)y = 10m \end{cases}$$

$$\text{ה. } \begin{cases} (2a+b)x - (2a-b)y = 8ab \\ (2a-b)x + (2a+b)y = 8a^2 - 2b^2 \end{cases}$$

(3) פתור את המשוואות הריבועיות הבאות:

$$\text{א. } x^2 - 2mx + m^2 - 1 = 0 \quad \text{ב. } x^2 - 2x + 4a = a^2 + 3$$

$$\text{ג. } x^2 + m(x+10) = 2m^2 - 5x \quad \text{ד. } \frac{1}{a-x} + \frac{1}{a} + \frac{1}{a+x} = 0$$

$$\text{ה. } (m^2 + 1)x^2 - m^2x - 1 = 0 \quad \text{ו. } \frac{a}{x} + \frac{1}{b} = \frac{x}{a} + b$$

$$\text{ז. } x + \frac{1}{x} = \frac{a-b}{a+b} + \frac{a+b}{a-b}$$

תשובות סופיות:

$$\text{(1) א. } x = \frac{b-6}{2-b}, b \neq 2 \quad \text{ב. } x = \frac{a^2+9}{6a}, a \neq 0 \quad \text{ג. } x = a+b \quad \text{ד. } x = -m \quad \text{ה. } x = a+1$$

$$\text{(2) א. } m \neq 1, (m+1, -1) \quad \text{ב. } a \neq \pm 1, \left( \frac{2a-4}{a^2-1}, \frac{4a-2}{a^2-1} \right)$$

$$\text{ג. } m \neq 0-1, \left( m^2 - m + 1, \frac{m-1}{m} \right) \quad \text{ד. } m \neq 1, -2, (2m+1, m-2)$$

$$\text{ה. } b \neq \pm 2a, (2a+b, 2a-b)$$

$$\text{(3) א. } x = m+1, m-1 \quad \text{ב. } x = a-1, 3-a \quad \text{ג. } x = m-5, -2m$$

$$\text{ד. } a \neq 0, x \neq \pm a, x = \pm a\sqrt{3} \quad \text{ה. } x = 1, -\frac{1}{m^2+1}$$

$$\text{ו. } a, b \neq 0, x = \frac{a}{b}, -ab \quad \text{ז. } a \neq \pm b, x = \frac{a+b}{a-b}, \frac{a-b}{a+b}$$

## משוואות עם שורשים:

### סיכום כללי:

פתרון משוואה מהצורה:  $\sqrt{x} = a$  יתקבל ע"י העלאה בריבוע של שני אגפי המשוואה באופן הבא:  $x = a^2 \rightarrow (\sqrt{x})^2 = (a)^2$ .

### הערות:

- (1) יש לזכור בעת העלאה בריבוע של שני אגפי המשוואה יש לבדוק את כל הפתרונות המתקבלים ע"י הצבתם במשוואה המקורית.
- (2) למשוואה מהצורה  $\sqrt{x} = a$  שבה  $a < 0$  אין פתרון.
- (3) יש לסדר תחילה משוואות שבהן הביטוי עם שורש אינו מבודד.
- (4) במשוואות שבהן יותר מביטוי אחד עם שורש יש לבודד תחילה את אחד הביטויים, להעלות בריבוע ולאחר מכן לחזור על התהליך ולבצע העלאה בריבוע פעם נוספת.

### שאלות:

פתור את המשוואות הבאות:

- |  |   |
|--|---|
| $\sqrt{x+2} = x$ (2)                           | $\sqrt{2x+5} = 7$ (1)                               |
| $\sqrt{2x+7} + 4 = x$ (4)                      | $\sqrt{3x+1} + x = 13$ (3)                          |
| $\sqrt{10x+6} + 9 = x$ (6)                     | $\sqrt{x-1} + 3 = x$ (5)                            |
| $\sqrt{24-x} + 3 = 2x$ (8)                     | $\sqrt{x+6} - 2 = 2x$ (7)                           |
| $2x = 16 - 3\sqrt{x-1}$ (10)                   | $\sqrt{x+16} + 4 = 2x$ (9)                          |
| $\sqrt{x^2 - 5x + 12} = 2\sqrt{6-x}$ (12)      | $\sqrt{3x+5} = \sqrt{x+17}$ (11)                    |
| $\sqrt{2x-1} + 3 = \sqrt{7x+1}$ (14)           | $\sqrt{x-1} \cdot \sqrt{2x-5} = \sqrt{11-x^2}$ (13) |
| $\sqrt{2x-3} + \sqrt{3-x} = 2$ (16)            | $\sqrt{9x-8} - 3\sqrt{x+4} = -2$ (15)               |
| $\sqrt{2x-2} + \sqrt{5x-4} = \sqrt{3x-2}$ (18) | $\sqrt{x+3} + \sqrt{x-2} = \sqrt{4x+1}$ (17)        |
|  | $3\sqrt{x-1} + \sqrt{2x-3} = 2\sqrt{x+2}$ (19)      |

**תשובות סופיות:**

- |                           |               |
|---------------------------|---------------|
| $x = 2$ (2                | $x = 22$ (1   |
| $x = 9$ (4                | $x = 8$ (3    |
| $x = 25$ (6               | $x = 5$ (5    |
| $x = 3.75$ (8             | $x = 0.25$ (7 |
| $x = 5$ (10               | $x = 4.25$ (9 |
| $x = 4, -3$ (12           | $x = 6$ (11   |
| $x = 5$ (14               | $x = 3$ (13   |
| $x = 2, 2\frac{8}{9}$ (16 | $x = 12$ (15  |
| $x = 1$ (18               | $x = 6$ (17   |
|                           | $x = 2$ (19   |

## משוואות עם ערך מוחלט:

סיכום כללי:

הגדרה:

ערך מוחלט הינו המרחק של מספר מ-0 ומוגדר באופן הבא:  $|x| = \begin{cases} x & x \geq 0 \\ -x & x < 0 \end{cases}$ .

משוואה עם ערך מוחלט:

משוואה עם ערך מוחלט היא מהצורה:  $|x| = a$ .

כדי לפתור משוואה עם ערכים מוחלטים יש למצוא את נקודות האפס של כל ערך מוחלט (קרי: הנקודות בהן הביטוי שבתוך הערך המוחלט מתאפס) ולפצל את המשוואה הנתונה לתחומים עבור כל תחום.

שאלות:

פתור את המשוואות הבאות:

$$|3x+14|=7 \quad (1) \qquad |3x-24|=x \quad (2)$$

$$|12-x|=3x \quad (3) \qquad 2x-|8-x|=10 \quad (4)$$

$$|4x-5|=|2x+13| \quad (5) \qquad |14-3x|=2|x+5| \quad (6)$$

$$|x|+7=|2x| \quad (7) \qquad |x+2|+6=|2x-4| \quad (8)$$

$$|x+2|+|2x-6|=|4x+8| \quad (9) \qquad |10-3x|-|x+4|=|2x-6| \quad (10)$$

תשובות סופיות:

$$\begin{array}{llll} x = -\frac{7}{3}, -7 & (1) & x = 6, 12 & (2) \\ x = 9, -1\frac{1}{3} & (5) & x = 24, \frac{4}{5} & (6) \\ x = 0, -12 & (9) & x = 0 & (10) \\ x = 6 & (4) & x = 3 & (3) \\ x = 12, -1\frac{1}{3} & (8) & x = \pm 7 & (7) \end{array}$$

## מערכת משוואות ממעלה שנייה:

### סיכום כללי:

מערכת משוואות ריבועיות מיוחסת למערכת של שתי משוואות (לפחות) שאחת מהן מכילה את אחד מהנעלמים בריבוע. למערכת משוואות ריבועיות יכולים להתקבל עד 4 פתרונות שונים. יש לפתור את המערכת לפי הטכניקות הרגילות של בידוד והצבה או השוואת מקדמים.

### שאלות:

פתור את מערכות המשוואות הבאות:

$$\begin{cases} 2x^2 + y^2 = 36 \\ x^2 + 3y = 10 \end{cases} \quad (2)$$

$$\begin{cases} x^2 + y^2 = 20 \\ x + y = 6 \end{cases} \quad (1)$$

$$\begin{cases} x^2 - 2y^2 = 17 \\ xy = -10 \end{cases} \quad (4)$$

$$\begin{cases} 3x^2 + 4y^2 = 16 \\ 5x^2 - 3y^2 = 17 \end{cases} \quad (3)$$

$$\begin{cases} x^2 - 2xy + 8y^2 = 8 \\ 3xy - 2y^2 = 4 \end{cases} \quad (6)$$

$$\begin{cases} x^2 - xy - 20y^2 = 0 \\ x + 6y = 1 \end{cases} \quad (5)$$

$$\begin{cases} 16x^2 - y^2 = 391 \\ 4x - y = 23 \end{cases} \quad (8)$$

$$\begin{cases} x^2 - y^2 = 33 \\ x + y = 11 \end{cases} \quad (7)$$

$$\begin{cases} \frac{3}{x} + \frac{1}{y} = 5 \\ \frac{4}{y} - \frac{1}{x} = -19 \end{cases} \quad (10)$$

$$\begin{cases} 4xy + x = -15 \\ \frac{3}{y} - 2x = 16 \end{cases} \quad (9)$$

$$\begin{cases} xy = 24 \\ (y-x)^2 - 7(y-x) + 10 = 0 \end{cases} \quad (12)$$

$$\begin{cases} \frac{3}{x} + \frac{5}{y} = 21 \\ \frac{8}{x} - \frac{1}{y} = 13 \end{cases} \quad (11)$$

$$\begin{cases} \sqrt{\frac{x}{y}} + \sqrt{\frac{y}{x}} = \frac{10}{3} \\ x^2 + y^2 = 9xy + 25 \end{cases} \quad (14)$$

$$\begin{cases} x^2y - xy^2 = 84 \\ x^2 - 2xy + y^2 + 5x - 5y = 24 \end{cases} \quad (13)$$

## תשובות סופיות:

- (2,4),(4,2) **(1)**
- (±2,±1) **(3)**
- $\left(-2, \frac{1}{2}\right), \left(\frac{5}{11}, \frac{1}{11}\right)$  **(5)**
- (7,4) **(7)**
- $\left(-5, \frac{1}{2}\right), \left(-24, -\frac{3}{32}\right)$  **(9)**
- $\left(\frac{1}{2}, \frac{1}{3}\right)$  **(11)**
- (±4,-2) **(2)**
- (5,-2),(-5,2) **(4)**
- $\left(3, \frac{1}{2}\right), \left(-3, -\frac{1}{2}\right), (2,1), (-2,-1)$  **(6)**
- (5,-3) **(8)**
- $\left(\frac{1}{3}, -\frac{1}{4}\right)$  **(10)**
- (4,6) , (-6,-4) , (3,8) , (-8,-3) **(12)**
- (-1.65,6.35) , (-6.35,1.65) , (7,4) , (-4,-7) **(13)**
- (5,45) , (-5,-45) , (45,5) , (-45,-5) **(14)**

## משוואות מסכמות מתקדמות:

### סיכום כללי:

### תזכורת מהירה:

- משוואה דו-ריבועית יכולה להופיע בכל תצורה (עם שורשים, עם ערכים מוחלטים וכו'). העיקרון הוא זיהוי תבנית של הנעלם אשר חוזרת על עצמה לאורך המשוואה. סימון התבנית במשתנה זמני ופתרון עבור משתנה זה תוביל למשוואה מוגדרת ופתירה. לאחר מכן יש להחזיר את ההצבה לתבנית של המשתנה המקורי ולמצוא את ערכיו.
- דרך הפתרון של משוואה עם שורשים היא ע"י בידוד השורש והעלאה בריבוע. במידה ויש יותר משורש אחד המופיעים בחיבור/חיסור יש לבצע את הפעולה פעמיים. חשוב לוודא נכונות של כל הפתרונות המתקבלים ע"י הצבה במשוואה המקורית לפני ההעלאות בריבוע.
- דרך הפתרון של משוואה עם ערכים מוחלטים היא ע"י פיצול המשוואה לתחומים לפי סימני הערך המוחלט. זאת יש לבצע ע"י איפוס הביטוי שבכל ערך מוחלט ומציאת ערכי הנעלם המקיימים זאת, חלוקת המשוואה לתחומים מתאימים ופתרונה בכל תחום. יש לזכור לבדוק האם הפתרון המתקבל נמצא בתחום הפתרון – במידה וכן הוא פתרון של המשוואה, אחרת הוא נפסל.
- משוואה עם פרמטרים נפתרת בצורה רגילה (התייחסות לפרמטרים כאל קבועים מספריים) כאשר יש לציין את תחומי ההגדרה שלהם. יש לבדוק פתרונות שמתקבלים המבוטאים באמצעות הפרמטרים במידה וקיימת הגבלת תחום הגדרה במשוואה.

## שאלות:

פתור את המשוואות הבאות:

$$\begin{array}{ll}
 x^2 + 5x - \sqrt{x^2 + 5x} - 30 = 0 & \text{(2)} & x + \sqrt{x+6} - 6 = 0 & \text{(1)} \\
 2x^2 + 6x - \sqrt{x^2 + 3x + 5} = 5 & \text{(4)} & 4x^2 + 16x - 4\sqrt{x^2 + 4x} - 3 = 0 & \text{(3)} \\
 x^2 - \sqrt{6x^2 - 15} = 1 & \text{(6)} & x^2 - \sqrt{16x^2 + 48} + 7 = 0 & \text{(5)} \\
 \frac{\sqrt{x^2 + 4x - 12}}{\sqrt{x-1}} + \sqrt{x+5} = \frac{7}{\sqrt{x-1}} & \text{(8)} & \frac{x^2}{\sqrt{3x-2}} - \sqrt{3x-2} = 1-x & \text{(7)} \\
 \sqrt{x^2 - 3x + 2} + \sqrt{x+3} = \sqrt{x-2} + \sqrt{x^2 + 2x - 3} & \text{(9)} & & \\
 \sqrt{x + \sqrt{14x - 49}} + \sqrt{x - \sqrt{14x - 49}} = \sqrt{14} & \text{(10)} & & \\
 \sqrt{x+6+6\sqrt{x-3}} - \sqrt{x+6-6\sqrt{x-3}} = 2 & \text{(11)} & & \\
 \frac{4}{x + \sqrt{x^2 + x}} - \frac{1}{x - \sqrt{x^2 + x}} = \frac{3}{x} & \text{(12)} & & 
 \end{array}$$

פתור את המשוואות הבאות עבור  $a > 0$ :

$$x^2 + ax - 2a\sqrt{3x^2 + 3ax - 9a^2} = 0 \quad \text{(14)} \qquad x^2 + ax - 2a\sqrt{x^2 + ax - a^2} = 0 \quad \text{(13)}$$

פתור את המשוואות הבאות:

$$\begin{array}{ll}
 |4 - |5 - x|| = |x + 3| & \text{(16)} & |3 - |2 - x| + |x|| = 1 & \text{(15)} \\
 \sqrt{25 + |16x^2 - 25|} = 4 + 4|x+1| & \text{(18)} & \left| \frac{x + |3 - x|}{x + 2} \right| = 18 & \text{(17)} \\
 & & \frac{x^3 - 5x}{\sqrt{2x^2 - 4x - 1} - |x| + 2} = 0 & \text{(19)}
 \end{array}$$

$$\frac{|x+2|}{|x|+2} = |2-x|+2 : \text{הראה כי אין פתרון למשוואה הבאה:} \quad \text{(20)}$$

### תשובות סופיות:

(1)  $x = 3$

(2)  $x_1 = 4, x_2 = -9$

(3)  $x_1 = 0.5, x_2 = -4.5$

(4)  $x_1 = 1, x_2 = -4$

(5)  $x_{1,2} = \pm 1$

(6)  $x_{1,2} = \pm 2$

(7)  $x = 1$

(8)  $x = 3$

(9)  $x = 2$

(10)  $3.5 \leq x \leq 7$

(11)  $x = 4$

(12)  $x = 1, x = \frac{9}{16}$

(13)  $x_1 = -2a, x_2 = a$

(14)  $x_1 = -2a, x_2 = 3a$

(15)  $x \leq 0$

(16)  $x = -1$

(17)  $x = -\frac{39}{18}, -\frac{33}{18}$

(18)  $x \leq \frac{5}{4}, x = -\frac{1}{4}$

(19)  $x = -\sqrt{5}$

(20) שאלת הוכחה.

## ביטויים ומשוואות ממעלה שלישית:

### סיכום כללי:

נוסחאות הכפל המקוצר ממעלה שלישית:

$$(a \pm b)^3 = a^3 \pm 3a^2b + 3ab^2 \pm b^3$$

$$a^3 \pm b^3 = (a \pm b)(a^2 \mp ab + b^2)$$

### שאלות:

#### פישוט ביטויים:

פשט את הביטויים הבאים:

$$(2y+5)^3 \quad (2)$$

$$(x-3)^3 \quad (1)$$

$$8y^3 + 343 \quad (4)$$

$$8x^3 - 1 \quad (3)$$

$$x^3y^6z^9 - 1 \quad (6)$$

$$a^6 - 27 \quad (5)$$

$$64mn^4 - 8m^4n^7 \quad (8)$$

$$11 + 88x^{12} \quad (7)$$

$$\frac{x^3 + 64}{x^2 + 4x} \quad (10)$$

$$\frac{x^2 + 4x + 4}{x^3 + 6x^2 + 12x + 8} \quad (9)$$

#### משוואות בנעלם אחד עם נוסחאות הכפל המקוצר:

פתור את המשוואות הבאות:

$$125x^3 = 1 - 15x + 75x^2 \quad (12)$$

$$x^3 - 12x^2 + 48x - 64 = 0 \quad (11)$$

$$x^3 - 7x - 6 = 0 \quad (14)$$

$$x^3 + x - 30 = 0 \quad (13)$$

#### משוואות בנעלם אחד עם פירוקים שונים:

פתור את המשוואות הבאות:

$$2x^3 + 5x^2 - 2x - 5 = 0 \quad (16)$$

$$2x^3 - 7x^2 + 7x - 2 = 0 \quad (15)$$

## מערכת משוואות:

$$\begin{cases} x^3 + y^3 = 243 \\ x + y = 9 \end{cases} \quad (17) \text{ פתור את מערכת המשוואות הבאה:}$$

$$\begin{cases} x^3 - y^3 = 91 \\ x^2y - xy^2 = 30 \end{cases} \quad (18) \text{ פתור את מערכת המשוואות הבאה:}$$

## תשובות סופיות:

$$8y^3 + 60y^2 + 150y + 125 \quad (10)$$

$$(2y + 7)(4y^2 - 17y + 49) \quad (11)$$

$$(xy^2z^3 - 1)(x^2y^4z^6 + xy^2z^3 + 1) \quad (12)$$

$$8mn^4(2 - mn)(4 + 2mn + m^2n^2) \quad (13)$$

$$\frac{x^2 - 4x + 16}{x} \quad (14)$$

$$x = \frac{1}{2} \quad (15)$$

$$x_{1,2,3} = -2, -1, 3 \quad (16)$$

$$x_{1,2,3} = -2.5, -1, 1 \quad (17)$$

$$(-5, -6), (6, 5) \quad (18)$$

$$x^3 - 9x + 27x - 27 \quad (1)$$

$$(2x - 1)(4x^2 + 2x + 1) \quad (2)$$

$$(a^2 - 3)(a^4 + 3a^2 + 9) \quad (3)$$

$$8(1 + 2x^4)(1 - 2x^4 + 4x^8) \quad (4)$$

$$\frac{1}{x + 2} \quad (5)$$

$$x = 4 \quad (6)$$

$$x = 3 \quad (7)$$

$$x_{1,2,3} = \frac{1}{2}, 1, 2 \quad (8)$$

$$(3, 6), (6, 3) \quad (9)$$

# קורס מתמטיקה להנדסאי טכנולוגיות מים

## פרק 3 - אי שוויונים אלגבריים

### תוכן העניינים

69	1. אי שוויונים ממעלה ראשונה
71	2. אי שוויונים ממעלה שנייה
72	3. אי שוויונים ממעלה שלישית
73	4. אי שוויונים עם מנה
75	5. אי שוויונים כפולים מערכות וגם ואו
76	6. שאלות מסכמות
78	7. אי שוויונים עם שורשים
80	8. מציאת תחום הגדרה
82	9. אי שוויונים עם ערך מוחלט

## אי-שוויונים ממעלה ראשונה:

### סיכום כללי:

#### פעולות המותרות לביצוע בפתרון אי-שוויון:

- לחבר או לחסר כל מספר או ביטוי.
- לכפול או לחלק בכל מספר או ביטוי חיובי.
- לכפול או לחלק בכל מספר או ביטוי שלילי תוך הפיכת סימן אי-השוויון.
- להעלות בחזקה אי זוגית.
- להעלות בחזקה זוגית אם שני אגפי אי-השוויון אינם שליליים.

#### פעולות אסורות לביצוע בפתרון אי-שוויון:

- לכפול או לחלק בביטוי שלא יודעים את סימנו.
- להעלות בחזקה זוגית כשיש אגף שלילי.

### שאלות:

פתור את אי-השוויונים הבאים:

$$6x > 2(3x-1) \quad (2) \qquad 45x - 26 > 109 \quad (1)$$

$$(x-2)^2 + 4 < (x+2)^2 + 20 \quad (4) \qquad 2(x-5) \geq \frac{1}{2}(4x+6) \quad (3)$$

$$4(6x-8) < 8(3x-4) \quad (6) \qquad \frac{8x-4}{2} < \frac{9(x+1)}{3} \quad (5)$$

$$\frac{7-x}{10} - \frac{3x-1}{5} + \frac{x+4}{3} < 7 \quad (8) \qquad \frac{x-6}{3} - \frac{x-4}{4} \geq 12-x \quad (7)$$

**תשובות סופיות:**

$$x > 3 \quad (1)$$

$$x \text{ כל} \quad (2)$$

$$x \text{ אף} \quad (3)$$

$$x > -2 \quad (4)$$

$$x < 5 \quad (5)$$

$$x \text{ אף} \quad (6)$$

$$x \geq 12 \quad (7)$$

$$x > -13 \quad (8)$$

## אי-שוויונים ממעלה שנייה:

### סיכום כללי:

אי שוויון ריבועי הוא מהצורה:  $ax^2 + bx + c \begin{matrix} > \\ < \end{matrix} 0$  כאשר  $a \neq 0$ .

כדי לפתור אי שוויון ריבועי יש למצוא את נקודות האפס של הביטוי הריבועי ולאחר מכן למצוא את תחום ההצבה עבורו הביטוי מקיים את אי השוויון עצמו.

### שאלות:

פתור את אי-השוויונים הבאים:

- |                               |  |
|-------------------------------|--|
| $x^2 - 12x > -32$ (2)         | $x^2 < 144$ (1)                        |
| $(x+2)(x+4) < 35$ (4)         | $(x+2)(x+5) < 0$ (3)                   |
| $(x-3)(x-7) \geq 8x - 56$ (6) | $-x^2 + 13x + 30 < 0$ (5)              |
| $(5x+6)^2 \leq 4(x-3)^2$ (8)  | $(x-5)^2 + x(x+2) < 89$ (7)            |
| $x^2 - 10x + 25 > 0$ (10)     | $-3x^2 + 12x > 0$ (9)                  |
| $2x^2 + 2x + 24 \geq 0$ (12)  | $(x-3)^2 > (x-1)(x+6) - x^2 - 3x$ (11) |

### תשובות סופיות:

- |                           |                      |
|---------------------------|----------------------|
| $x < 4, x > 8$ (2)        | $-12 < x < 12$ (1)   |
| $-9 < x < 3$ (4)          | $-5 < x < -2$ (3)    |
| $x \leq 7, x \geq 11$ (6) | $x < -2, x > 15$ (5) |
| $-4 \leq x \leq 0$ (8)    | $-4 < x < 8$ (7)     |
| $x > 5, x < 5$ (10)       | $0 < x < 4$ (9)      |
| $x$ כל (12)               | $x < 3, x > 5$ (11)  |

## אי-שוויונים ממעלה שלישית:

### סיכום כללי:

אי שוויונים ממעלה גבוהה מיוחסים לכאלה שניתן לכתוב אותם בצורה של פולינומים, כגון:  $x^4 + 2x^2 + 1 < 0$ ,  $x^3 - 4x^2 + 4x + 1 > 0$ . וכי.  
 בפועל נפתור אותם ע"י פירוק לגורמים ומציאת נקודות האפס של כל גורם.  
 לאחר מכן נבדוק את כל אחד מתחומי המספרים המתקבלים עבור הנעלם ונראה באלו מהם מתקבל פסוק אמת.

### שאלות:

פתור את אי-השוויונים הבאים:

$x(x^2 + x + 1) > 0 \quad (2)$	$(x-1)(x-2)(x-3) > 0 \quad (1)$
$x^3 - 25x \geq 0 \quad (4)$	$(-2x^2 - 3x + 2)(x+1) \leq 0 \quad (3)$
$(x^2 + 8x + 20)(3x - 5) \leq 0 \quad (6)$	$(x^2 + 3x + 5)(x - 2) > 0 \quad (5)$
$x^3 - 6x^2 + 9x \leq 0 \quad (8)$	$(x^2 - x - 6)(x - 1) < 0 \quad (7)$
$(x-2)(x-4)(x-1) < 0 \quad (10)$	$(x^2 + 6)(x + 3) > 0 \quad (9)$

### תשובות סופיות:

$x > 0 \quad (2)$	$1 < x < 2, x > 3 \quad (1)$
$-5 \leq x \leq 0, x \geq 5 \quad (4)$	$-2 \leq x \leq -1, x \geq \frac{1}{2} \quad (3)$
$x \leq 1\frac{2}{3} \quad (6)$	$x > 2 \quad (5)$
$x \leq 0, x = 3 \quad (8)$	$x < -2, 1 < x < 3 \quad (7)$
$x < 1, 2 < x < 4 \quad (10)$	$x > -3 \quad (9)$

## אי-שוויונים עם מנה:

### סיכום כללי:

אי שוויון מהצורה:  $\frac{f(x)}{g(x)} > 0$  או  $\frac{f(x)}{g(x)} < 0$  נקרא אי-שוויון עם מנה, בו  $f(x)$

ו- $g(x)$  הם פולינומים כלשהם.

למשל:  $\frac{2x+4}{x^2-3x+4} < 0$  בו:  $f(x) = 2x+4$  ו- $g(x) = x^2-3x+4$ .

כדי לפתור אי שוויון עם מנה נמצא את נקודות האפס של  $f(x)$  ושל  $g(x)$  ונציב מספרים בתחומים המתקבלים. אלו שיתנו פסוק אמת יהוו את פתרון אי השוויון.

### הערות:

- ניתן לבצע כפל של המכנה בריבוע בכדי להעביר את אי השוויון לצורה של מכפלות.
- ניתן להעביר אי שוויון המכיל מספר מנות ומספרים שלמים לצורה הנ"ל ע"י פעולות אלגבריות מתאימות תחילה.

### שאלות:

פתור את אי-השוויונים הבאים:

$\frac{x-1}{3x+2} \geq -3$ (2)	$\frac{x-1}{x^2-9} > 0$ (1)
$\frac{x-3}{2x^2-10x+12} > 0$ (4)	$\frac{1}{x^2-16} > 0$ (3)
$\frac{1}{-3(x-1)} < 0$ (6)	$\frac{2x-1}{x-5} \leq 0$ (5)
$\frac{1}{x^2-5x+6} < 0$ (8)	$\frac{x-1}{x+2} \leq 1$ (7)
$\frac{1}{x^2-8x+12} \geq 0$ (10)	$\frac{x^2-7x+6}{-x^2+3x-7} \geq 0$ (9)

**תשובות סופיות:**

$$x < -\frac{2}{3}, x \geq -\frac{1}{2} \quad (2)$$

$$2 < x < 3, x > 3 \quad (4)$$

$$x > 1 \quad (6)$$

$$2 < x < 3 \quad (8)$$

$$x < 2, x > 6 \quad (10)$$

$$-3 < x < 1, x > 3 \quad (1)$$

$$x < -4, x > 4 \quad (3)$$

$$\frac{1}{2} \leq x < 5 \quad (5)$$

$$x > -2 \quad (7)$$

$$1 \leq x \leq 6 \quad (9)$$

## אי-שוויונים כפולים - מערכת וגם:

### סיכום כללי:

אי-שוויון כפול הוא צורה מקוצרת להציג שני אי-שוויונים אשר יש לפתור יחד (קרי: כמערכת יוגם!). למשל במקום לכתוב:  $a < b$  וגם  $b < c$ , ניתן לכתוב:  $a < b < c$ . מכאן כי כדי לפתור אי שוויון כפול יש לפצל אותו תחילה לשני אי-שוויונים ולפתור כל אחד בנפרד. לאחר מכן יש לקחת את חיתוך הפתרונות.

### שאלות:

פתור את אי-השוויונים הבאים:

$$0 < \frac{1}{x+4} < 2 \quad (2)$$

$$3 < x+1 < 5 \quad (1)$$

$$0 < \frac{8-3x}{5-2x} < 4 \quad (4)$$

$$-1 < \frac{x-1}{x+1} < 1 \quad (3)$$

$$6 < \frac{2x+10}{3} \leq \frac{7x-20}{5} \quad (6)$$

$$6x-38 \leq x-3 \leq 5x+7 \quad (5)$$

$$\frac{4x+5}{15} > \frac{3x-8}{5} + \frac{9-x}{3} > 11 \quad (8)$$

$$-1 \leq \frac{2x-6}{4} < \frac{x+2}{3} \quad (7)$$

### תשובות סופיות:

$$x > -3\frac{1}{2} \quad (2)$$

$$2 < x < 4 \quad (1)$$

$$x < 2\frac{2}{5}, x > 2\frac{2}{3} \quad (4)$$

$$x > 0 \quad (3)$$

$$x \geq 10 \quad (6)$$

$$-2.5 \leq x \leq 7 \quad (5)$$

$$\emptyset \quad (8)$$

$$1 \leq x < 13 \quad (7)$$

## שאלות מסכמות – אי-שוויונים:

### שאלות:

פתור את אי-השוויונים הבאים:

$$x \leq -\frac{3}{4} \cap \{-2 < x \leq 5 \cup 0 < x < 8\} \quad (1)$$

$$\frac{(x-3)(x+4)}{2-x} \leq 0 \quad (3) \quad x(x+5) - 3x + 15 \leq 2x - 1 - x(4-x) \quad (2)$$

$$\frac{(2x-3)(x-12)}{(x+1)(4-x)} \geq 0 \quad (5) \quad \frac{(x-5)(3x+1)}{(2-x)(x+7)} < 0 \quad (4)$$

$$\frac{(x-6)^2(x+1)}{x-2} > 0 \quad (7) \quad x(x+3)(2x-5) < 0 \quad (6)$$

$$\frac{x-3}{x^2+2} > 0 \quad (9) \quad \frac{5-2x}{(x-8)^2} \leq 0 \quad (8)$$

$$\frac{x^2-6x+9}{x^3-x} > 0 \quad (11) \quad \frac{x^2-4x}{x^2+2x-3} > 0 \quad (10)$$

$$\frac{x}{x^2-4} + \frac{1}{x+2} < \frac{1}{x-2} \quad (13) \quad \frac{x-7}{x^2+x+3} > 0 \quad (12)$$

$$6 < 5x - x^2 \cap x^2 > 3x + 10 \quad (15) \quad \frac{2x^2}{x^2-6x+8} \geq \frac{x}{x-4} - \frac{x}{x-2} \quad (14)$$

$$1 < \frac{x-1}{x-4} \leq 2 \quad (17) \quad \frac{3}{x-1} - \frac{2}{x} > 0 \cup \frac{1}{x-3} < \frac{1}{1-x} \quad (16)$$

(18) לאלו ערכי  $x$  נמצאת הפונקציה  $f(x) = \frac{x}{x-3}$  מעל הפונקציה  $g(x) = \frac{x+1}{x+3}$  ?

## תשובות סופיות:

- |   |                                      |
|---|--------------------------------------|
| $x \leq -4$ (2)                           | $-2 < x \leq -\frac{3}{4}$ (1)       |
| $x < -7, -\frac{1}{3} < x < 2, x > 5$ (4) | $-4 \leq x < 2, 3 \leq x$ (3)        |
| $x < -3, 0 < x < 2.5$ (6)                 | $-1 < x \leq 1.5, 4 < x \leq 12$ (5) |
| $2.5 \leq x < 8, x > 8$ (8)               | $x < -1, 2 < x < 6, x > 6$ (7)       |
| $x < -3, 0 < x < 1, x > 4$ (10)           | $x > 3$ (9)                          |
| $x > 7$ (12)                              | $-1 < x < 0, 1 < x < 3, x > 3$ (11)  |
| $x \leq 0, 1 \leq x < 2, x > 4$ (14)      | $x < -2, 2 < x < 4$ (13)             |
| $x \neq 1$ (16)                           | $x \neq 7$ (15)                      |
| $-3 < x < -\frac{3}{5}, x > 3$ (18)       | $x \geq 7$ (17)                      |

## אי שוויונים עם שורשים:

סיכום כללי:

מקרים בפתרון אי-שוויונות עם שורשים:

מקרה	אי השוויון	פתרון
$a \geq 0$	$\sqrt{f(x)} < a$	$0 \leq f(x) < a^2$
$a < 0$	$\sqrt{f(x)} < a$	אין פתרון
	$\sqrt{f(x)} > a$	כל $x$ בת.ה. של $f(x)$

שאלות:

פתור את אי השוויונים הבאים:

$$\sqrt{2x-5} \geq 1 \quad (2)$$

$$\sqrt{x+3} < 7 \quad (1)$$

$$\sqrt{x^2+x-6} < x-3 \quad (4)$$

$$\sqrt{2x^2+5x-6} > 2-x \quad (3)$$

$$\sqrt{x^2+5x+6} - \sqrt{x^2-x+1} < 1 \quad (6)$$

$$\sqrt{x^2+3x+2} - 1 < \sqrt{x^2-x+1} \quad (5)$$

$$\frac{4}{\sqrt{2-x}} - \sqrt{2-x} < 2 \quad (8)$$

$$\frac{1-\sqrt{1-4x^2}}{x} > \frac{3}{2} \quad (7)$$

$$\sqrt{2-\sqrt{3+x}} < \sqrt{4+x} \quad (10)$$

$$\sqrt{\frac{1}{x^2} - \frac{3}{4}} < \frac{1}{x} - \frac{1}{2} \quad (9)$$

$$\sqrt{1+\frac{9}{x}} + 5\sqrt{\frac{x}{x+9}} \geq 4 \quad (12)$$

$$\sqrt{x+6} > \sqrt{x+1} + \sqrt{2x-5} \quad (11)$$

**תשובות סופיות:**

(1)  $-3 \leq x < 46$

(2)  $x \geq 3$

(3)  $x < -10, x > 1$

(4)  $\emptyset$

(5)  $x \leq -2, -1 \leq x < \frac{-1 + \sqrt{13}}{6}$

(6)  $x \leq -3, -2 \leq x < \frac{-13 + \sqrt{73}}{16}$

(7)  $\frac{12}{25} < x \leq \frac{1}{2}$

(8)  $x < 2\sqrt{5} - 4$

(9)  $1 < x \leq \frac{2}{\sqrt{3}}$

(10)  $שזה: -2.618 < x \leq 1 - \frac{3 + \sqrt{5}}{2} < x \leq 1$

(11)  $2.5 \leq x < 3$

(12)  $x < -9, x > 0$

## תחום הגדרה:

### שאלות:

1 מצא את תחום ההגדרה של הפונקציות הבאות:

א. $f(x) = \sqrt{3x-4}$	ב. $f(x) = \sqrt{x^2 - 5x - 6}$
ג. $f(x) = \sqrt{12x - x^2 - x^3}$	ד. $f(x) = \sqrt{\frac{x+5}{x^2-4}}$
ה. $f(x) = \frac{1}{\sqrt{x+2}-x}$	ו. $f(x) = \frac{\sqrt{3x^2-2x-1}}{2x-3}$

2 מצא את תחום ההגדרה של הפונקציות הבאות:

א. $f(x) = \sqrt{\sqrt{x+2}-3}$	ב. $f(x) = \frac{1}{x+\sqrt{x+6}}$
ג. $f(x) = \sqrt{\frac{2x^2+x-3}{x^2+5x+9}}$	ד. $f(x) = \frac{\sqrt{x^2+5x+6}}{x-1}$

3 תחום ההגדרה של הפונקציה:  $f(x) = \sqrt{ax - x^2 - 4}$  הוא  $1 \leq x \leq 4$ . מצא את ערכו של הפרמטר  $a$ .

4 תחום ההגדרה של הפונקציה:  $f(x) = \sqrt{\frac{x+a}{x-a}}$  הוא  $x \leq -2$ ,  $x > 2$ . מצא את ערכו של הפרמטר  $a$ .

5 נתונה הפונקציה:  $f(x) = \sqrt{\sqrt{x+6}-a}$ , ( $a$  פרמטר חיובי).

א. הבע באמצעות  $a$  את תחום הגדרתה.

ב. מגדירים פונקציה נוספת:  $g(x) = \sqrt{\frac{2x}{x+5}}$ .

ידוע כי תחום ההגדרה של שתי הפונקציות מכסה את כל ציר המספרים. מצא את תחום הערכים האפשרי של הפרמטר  $a$ .

## תשובות סופיות:

- (1) א.  $x \geq 1\frac{1}{3}$     ב.  $x \leq -1, x \geq 6$     ג.  $x \leq -4, 0 \leq x \leq 3$
- ד.  $-5 \leq x < -2, x > 2$     ה.  $-2 \leq x < 2, x > 2$     ו.  $x \leq -\frac{1}{3}, 1 \leq x < \frac{3}{2}, x > \frac{3}{2}$
- (2) א.  $x \geq 7$     ב.  $-6 \leq x \neq -2$     ג.  $x \leq -1\frac{1}{2}, x \geq 1$
- ד.  $x \leq -3, -2 \leq x \neq 1$
- (3)  $a = 5$
- (4)  $a = 2$
- (5) א.  $x \geq a^2 - 6$     ב.  $0 < a \leq 1$

## אי שוויונים עם ערך מוחלט:

סיכום כללי:

כללים לפתרון אי שוויון עם ערך מוחלט יחיד:

$ x  > a$	$ x  < a$	מקרה
$x < -a \cap x > a$	$-a < x < a$	פתרון

כללים לפתרון אי שוויון עם מספר ערכים מוחלטים:

- נמצא את הנקודות המאפסות כל ביטוי עם ערך מוחלט.
- מחלקים את אי השוויון לתחומים לפי נקודות האפס.
- פותרים את אי השוויון לכל תחום בנפרד.
- כותבים פתרון כללי (מערכת או) לכל התחומים יחדיו.

שאלות:

(1) פתור את אי-השוויונים הבאים:

א.  $|x+2| < 3$       ב.  $|2x+1| > 7$   
 ג.  $|6-2x| < x$       ד.  $|2x+1|-3x > 4$

(2) פתור את אי-השוויונים הבאים:

א.  $1 < |4-3x| < 7$       ב.  $|2x+3| < 8 < |5-x|$

(3) פתור את אי-השוויונים הבאים:

א.  $|x^2 + 6x - 4| < 12$       ב.  $|x^2 + x - 10| > 3x - 2$   
 ג.  $|x^2 - 3x| < 4$       ד.  $|6x^2 - 7x - 4| > 1$   
 ה.  $x^2 - 6|x| + 5 \leq 0$       ו.  $x^2 - 6|x+1| - 1 > 0$

(4) פתור את אי-השוויונים הבאים:

א.  $|x-3|+|2x+2|>7$

ב.  $|x+8|<11-|1-3x|$

ג.  $|3-2x|-11>4-|6+x|$

ד.  $|2x-6|+|x+5|>14-|1-x|$

ה.  $|5+4x|-|3-x|+\left|4-\frac{1}{2}x\right|\leq 22$

ו.  $|x+3|+|x^2-5x+4|<19$

(5) פתור את אי-השוויונים הבאים:

א.  $\left|\frac{3x-1}{x-2}\right|\geq 3$

ב.  $1\leq\left|\frac{x+2}{x-2}\right|\leq 2$

ג.  $\frac{|x-6|+8x}{x-12}\leq 12$

ד.  $\left|\frac{x^2+3x+2}{x^2-3x+2}\right|>5$

(6) פתור את אי-השוויונים הבאים (ערך מוחלט ושורשים):

א.  $\sqrt{x^2-|x-12|}<x$

ב.  $2-\sqrt{1-x}\leq|x+2|-3$

ג.  $\sqrt{|2x+1|-x-1}\leq 4-|3x|$

ד.  $\frac{|x+2|-|x|}{\sqrt{4-x^3}}>0$

## תשובות סופיות:

- (1) א.  $-5 < x < 1$   
 ג.  $2 < x < 6$
- (2) א.  $-1 < x < 1$  או  $1\frac{2}{3} < x < 3\frac{2}{3}$   
 ב.  $-5\frac{1}{2} < x < -3$
- (3) א.  $-8 < x < -4$  או  $-2 < x < 2$   
 ג.  $-1 < x < 4$
- ה.  $-5 \leq x \leq -1$  או  $1 \leq x \leq 5$
- (4) א.  $x < -2$  או  $2 < x$   
 ג.  $x < -6$  או  $4 < x$
- ה.  $-7\frac{3}{7} \leq x \leq 4$
- (5) א.  $\frac{7}{6} \leq x < 2$ ,  $x > 2$   
 ג.  $x < 12$ ,  $x \geq 46$
- (6) א.  $x = -1$ ,  $x \geq 3$ ,  $x \neq 12$   
 ג.  $0 \leq x \leq 1$ ,  $-1 \leq x \leq -\frac{2}{3}$
- ב.  $x < -4$  או  $3 < x$   
 ד.  $x < -1$
- ב.  $x < -\frac{1}{2}$ ,  $-\frac{1}{3} < x < \frac{3}{2}$ ,  $x > \frac{5}{3}$   
 ג.  $x < 2$  או  $4 < x$
- ג.  $x < -5$ ,  $x > 7$   
 ב.  $-1 < x < 1$   
 ד.  $x < -1$  או  $4 < x$   
 ג.  $-2 < x < 6$
- ב.  $0 \leq x \leq \frac{2}{3}$ ,  $x \geq 6$   
 ד.  $\frac{1}{2} < x < 1$ ,  $1 < x < 2$ ,  $2 < x \leq 4$
- ב.  $x \leq \frac{-15 + \sqrt{33}}{2}$   
 ד.  $-1 < x < \sqrt[3]{4}$

# קורס מתמטיקה להנדסאי טכנולוגיות מים

פרק 4 - חקירת משוואה ממעלה ראשונה

תוכן העניינים

- 1. פתרון משוואות ממעלה ראשונה עם פרמטר ..... 85
- 2. חקירת משוואות ממעלה ראשונה ..... 86
- 3. חקירה של מערכת שתי משוואות ממעלה ראשונה ..... 89
- 4. חקירת משוואות ממעלה ראשונה עם שורשים ..... 94
- 5. חקירת משוואות ממעלה ראשונה עם ערך מוחלט ..... 95

## פתרון משוואות ממעלה ראשונה עם פרמטר:

### סיכום כללי:

#### שלבי עבודה:

- נפתור את המשוואה.
- נאתר את ערכי הפרמטר המאפשרים את המכנה בכל שלבי הפתרון.
- נבדוק לכל ערך כזה בנפרד כמה פתרונות יש למשוואה על ידי הצבתו במשוואה המקורית.

### שאלות:

(1) פתרו את המשוואה:  $kx + 6k = 2x + 3k^2$ .

(2) פתרו את המשוואה:  $a^2(x-1) = 3ax + 4(x-a)$ .

(3) פתרו את מערכת המשוואות: 
$$\begin{cases} 2kx + 5y = 2k^2 \\ 2x - y = -10 \end{cases}$$

(4) פתרו את מערכת המשוואות הבאה: 
$$\begin{cases} bx - (1-2b)y = 1 \\ (2b+1)x + 3(by-1) = 0 \end{cases}$$

### תשובות סופיות:

(1)  $x = 3k \quad (k \neq 2)$

(2)  $x = \frac{a}{a+1}$

(3)  $(k-5, 2k)$

(4)  $\left( \frac{2-b}{b(b+1)}, \frac{1}{b+1} \right), \quad b \neq 0, \pm 1$

## חקירה של משוואה ממעלה ראשונה:

### שאלות:

(1) נתונה המשוואה הבאה:  $m^2(2x-1) = 9(x-1) - x(6+5m)$ .

מצאו לאילו ערכי  $m$  יש למשוואה:

א. פתרון יחיד (ומצאו אותו).

ב. אינסוף פתרונות.

ג. אף פתרון.

(2) נתונה המשוואה:  $k^2(5-2x) = 3(15-2kx)$ .

א. מצאו לאילו ערכי  $k$  למשוואה:

i. פתרון יחיד.

ii. אף פתרון.

iii. אינסוף פתרונות.

ב. מצאו לאילו ערכי  $k$  פתרון המשוואה:

i. חיובי.

ii. מקיים את אי-השוויון:  $2x-3 > x$ .

(3) נתונה המשוואה:  $\frac{mx}{m-2} = \frac{2m}{m-5} - \frac{6x}{m^2-7m+10}$ .

מצאו לאילו ערכי  $m$  למשוואה:

א. פתרון יחיד.

ב. אף פתרון.

ג. אינסוף פתרונות.

(4) לפניכם המשוואה:  $m \cdot \frac{x-1}{x} - \frac{m+6}{m} = \frac{-3}{x}$ .

א. פתרו את המשוואה בהנחה שיש לה פתרון יחיד.

ב. מצאו עבור אלו ערכי  $m$  יש למשוואה:

i. פתרון יחיד.

ii. אינסוף פתרונות.

iii. אף פתרון.

ג. האם עבור ערכי ה- $m$  הנותנים אינסוף פתרונות, כל  $x$  יהיה פתרון של המשוואה?

ד. עבור אלו ערכי  $m$  יהיה פתרון המשוואה גדול מ-2?

$$(5) \quad \text{נתונה המשוואה: } x(m^2 - 9) = 2(m(3x+1) + 1 - x)$$

- א. פתרו את המשוואה בהנחה שיש לה פתרון יחיד.  
 ב. חקרו את המשוואה ומצא עבור אלו ערכי  $m$  יש למשוואה:  
 i. פתרון יחיד.  
 ii. אינסוף פתרונות.  
 iii. אף פתרון.  
 ג. עבור איזה ערך של  $m$  פתרון המשוואה יהיה:  $x = 2$ ?

$$(6) \quad \text{נתונה המשוואה: } \frac{5}{k-4} - \frac{kx}{3k+15} = \frac{k^2+29}{k^2+k-20}$$

- א. פתרו את המשוואה בהנחה שיש לה פתרון יחיד.  
 ב. האם קיים ערך של  $k$  עבורו יש למשוואה אינסוף פתרונות?  
 ג. עבור איזה ערך של  $k$  פתרון המשוואה הוא:  $-4$ ?

$$(7) \quad \text{לפניכם המשוואה הבאה: } \frac{m^2x}{m-5} + \frac{2mx - m^2 + 1}{m-5} = 1$$

- מצאו עבור אלו ערכי  $m$  יש למשוואה:  
 א. פתרון יחיד (ובטאו אותו באמצעות  $m$ ).  
 ב. אינסוף פתרונות.  
 ג. אף פתרון.

$$(8) \quad \text{לפניכם המשוואה הבאה: } \frac{(m^2+1)x-4}{x-2} = m+1$$

- מצאו עבור אלו ערכי  $m$  יש למשוואה:  
 א. פתרון יחיד (ובטאו אותו באמצעות  $m$ ).  
 ב. אינסוף פתרונות.  
 ג. אף פתרון.

$$(9) \quad \text{לפניכם המשוואה הבאה: } \frac{5m-2}{mx-1} = -3$$

- מצאו עבור אלו ערכי  $m$  יש למשוואה:  
 א. פתרון יחיד (ובטאו אותו באמצעות  $m$ ).  
 ב. אינסוף פתרונות.  
 ג. אף פתרון.

$$(10) \text{ לפניכם המשוואה הבאה: } \frac{x+1}{x-m+1} = \frac{x}{x+m+2}$$

מצאו עבור אלו ערכי  $m$  יש למשוואה:

א. פתרון יחיד (ובטאו אותו באמצעות  $m$ ).

ב. אינסוף פתרונות.

ג. אף פתרון.

### תשובות סופיות:

$$(1) \text{ א. } \frac{1}{2}, m \neq -3, \frac{m-3}{2m-1} \text{ ב. } m = -3 \text{ ג. } m = \frac{1}{2}$$

$$(2) \text{ א. } 1, 3, k \neq 0, 3 \text{ ב. } k = 0 \text{ ג. } k = 3$$

$$\text{ב. } k > 0 \text{ או } k < -3 \text{ וגם } k \neq 3 \text{ ג. } 0 < k < 15 \text{ וגם } k \neq 3$$

$$(3) \text{ א. } 2, 3, 5, m \neq 2, 3, 5 \text{ ב. } m = 2, 3, 5 \text{ ג. אף } m$$

$$(4) \text{ א. } m \neq 3, x = \frac{1}{m+2} \text{ ב. פתרון יחיד: } m \neq 0, -2, 3 \text{ ג. אף פתרון:}$$

$$m = 0, -2, \text{ אינסוף פתרונות: } m = 3 \text{ ג. לא, רק: } x \neq 0$$

$$\text{ד. } -2 < m < -1.5$$

$$(5) \text{ א. } m \neq 7, -1, x = \frac{1}{m-7} \text{ ב. פתרון יחיד: } m \neq 7, -1 \text{ ג. אף פתרון: } m = 7$$

אינסוף פתרונות:  $m = -1$

$$(6) \text{ א. } -5, -4, 0, k \neq 0, 4, -5, x = \frac{3}{k} - 3 \text{ ב. אף } k \text{ ג. } k = -3$$

$$(7) \text{ א. } 5, -2, m \neq 0 \text{ ב. אף } m \text{ ג. } m = 0, -2, 5$$

$$(8) \text{ א. } \pm 1, m \neq 0 \text{ ב. } m = 1 \text{ ג. } m = 0, -1$$

$$(9) \text{ א. } \frac{2}{5}, m \neq 0 \text{ ב. אף } m \text{ ג. } m = \frac{2}{5}, 0$$

$$(10) \text{ א. } -\frac{1}{2}, -2, -1, m \neq 0 \text{ ב. אף } m \text{ ג. } m = 0, -1, -2, -\frac{1}{2}$$

## חקירה של מערכת שתי משוואות ממעלה ראשונה:

**סיכום כללי:**

**שלבי עבודה:**

- נפתור את מערכת המשוואות.
- נאתר את ערכי הפרמטר המאפסים את המכנה בכל שלבי הפתרון.
- נבדוק לכל ערך כזה בנפרד כמה פתרונות יש למערכת על ידי הצבתו.

**המשמעות הגרפית של חקירת מערכת משוואות ממעלה ראשונה:**

בהינתן מערכת שתי משוואות מהצורה:  $\begin{cases} a_1x + b_1y = c_1 \\ a_2x + b_2y = c_2 \end{cases}$  נאמר כי:

אם:  $\frac{a_1}{a_2} \neq \frac{b_1}{b_2}$  אז הישרים נחתכים (כלומר למערכת פתרון יחיד).

אם:  $\frac{a_1}{a_2} = \frac{b_1}{b_2} \neq \frac{c_1}{c_2}$  אז הישרים מקבילים (כלומר למערכת אף פתרון).

אם:  $\frac{a_1}{a_2} = \frac{b_1}{b_2} = \frac{c_1}{c_2}$  אז הישרים מתלכדים (כלומר למערכת אינסוף פתרונות).

**שאלות:**

$$(1) \quad \begin{cases} x + 3ay = a \\ ax + 3y = 4a - 3 \end{cases} \quad \text{נתונה מערכת המשוואות:}$$

א. מצאו לאלו ערכי  $a$  למערכת המשוואות:

- פתרון יחיד.
- אף פתרון.
- אינסוף פתרונות.

ב. מצאו לאלו ערכי  $a$  נקודת החיתוך בין הישרים (המיוצגים על ידי המשוואות) נמצאת ברביע השלישי.

$$(2) \quad \begin{cases} (m+4)x + 5y = m+8 \\ x + my = m+2 \end{cases} \quad \text{נתונות מערכת המשוואות הבאה:}$$

א. פתרו את מערכת המשוואות בהנחה שיש לה פתרון יחיד.

ב. מצאו עבור אלו ערכי  $m$  יש למערכת:

i. פתרון יחיד.

ii. אינסוף פתרונות.

iii. אף פתרון.

ג. פתרון המערכת מייצג נקודה במערכת צירים.

הוכיחו כי נקודה זו נמצאת על הישר:  $y(m-1) = 2(m-1)x + 4 - m$ .

ד. עבור אלו ערכי  $m$  פתרון המערכת:

i. יהיה ברביע השני.

ii. יהיה מתחת לציר ה- $x$ .

iii. יהיה מימין לציר ה- $y$ .

$$(3) \quad \begin{cases} \frac{x^2}{4} - 2x + 3y = \left(k - \frac{x}{2}\right)^2 + 4 \\ x - 10 = k(1 - y) \end{cases} \quad \text{לפניכם מערכת המשוואות הבאה:}$$

א. מצאו לאלו ערכי  $k$  יש למערכת המשוואות:

i. פתרון יחיד.

ii. אינסוף פתרונות.

iii. אף פתרון.

ב. פתרו את מערכת המשוואות בהנחה שיש לה פתרון יחיד.

$$(4) \quad \begin{cases} k(x-1) = 1 - 2y \\ \frac{2x+3}{k} = 3 - y \end{cases} \quad \text{לפניכם מערכת המשוואות הבאה:}$$

א. מצאו לאלו ערכי  $k$  יש למערכת המשוואות:

i. פתרון יחיד.

ii. אינסוף פתרונות.

iii. אף פתרון.

ב. פתרו את מערכת המשוואות בהנחה שיש לה פתרון יחיד.

$$(5) \quad \begin{cases} k^2(1-x) = k + 9x + 12y \\ x = 1 - \frac{2(y+1)}{k} \end{cases} \quad \text{לפניכם מערכת המשוואות הבאה:}$$

א. מצאו לאלו ערכי  $k$  יש למערכת המשוואות:

i. פתרון יחיד.

ii. אינסוף פתרונות.

iii. אף פתרון.

ב. פתרו את מערכת המשוואות בהנחה שיש לה פתרון יחיד.

$$(6) \quad \begin{cases} (2-k)x - y = k \\ 3x + ky = -1 \end{cases} \quad \text{נתונה מערכת המשוואות הבאה:}$$

א. מצאו את הערך של  $k$  עבורו  $(2,7)$  הוא פתרון של מערכת המשוואות.

ב. האם יש למשוואה פתרונות נוספים עבור הערך של  $k$  שמצאת בסעיף הקודם?

ג. האם קיים ערך של  $k$  עבורו למערכת המשוואות לא יהיו פתרונות כלל?

אם כן מצאו אותו.

$$(7) \quad \begin{cases} ax + b^2y = a^2 \\ 3x + by = 9b \end{cases} \quad \text{לפניכם מערכת המשוואות הבאה:}$$

א. פתרו את מערכת המשוואות בהנחה שיש לה פתרון יחיד.

ב. הראו שכאשר  $a = 3b$  יש למערכת אינסוף פתרונות.

ג. עבור אלו ערכי  $a$  ו- $b$  הפתרון היחיד של המערכת יהיה  $(4,3)$ ?

$$(8) \quad \begin{cases} amx + y = m^2 \\ bx + my = -9m \end{cases} \quad \text{לפניך מערכת המשוואות הבאה:}$$

א. מצאו ערכי הפרמטרים  $a$  ו- $b$  אם ידוע כי כאשר  $m = 4$  פתרון המשוואה הוא  $(4,0)$ .

ב. הוכיחו את הטענות הבאות:

i. לכל ערך של  $m$  יש למערכת פתרון ממשי.

ii. פתרון המערכת תמיד יהיה  $(m,0)$ .

ג. העזרו בסעיף הקודם וקבע איזו משוואה מבין שלושת המשוואות

הבאות לא תכיל את הפתרון היחיד הנ"ל:

i.  $7y + 2m = 2x$

ii.  $my = 2x - m$

iii.  $m(y - mx) = 2x - m(m^2 + 2)$

$$(9) \quad \begin{cases} x + (k-9)y = 8 \\ x - \frac{14y}{k} = 1 \end{cases} \quad \text{לפניך הישרים הבאים:}$$

- א. עבור אלו ערכי  $k$  הישרים הללו מקבילים?  
 ב. הביעו באמצעות  $k$  את נקודת החיתוך של הישרים.  
 ג. עבור איזה ערך של  $k$  נקודת החיתוך של הישרים תהיה על הישר:  $y = x - 8$ ?

$$(10) \quad \text{לפניכם שני הישרים:} \quad \begin{cases} (k^2 + 6)x + ay = 15 \\ kx + ay = 3 \end{cases} \quad , a, k \text{ פרמטרים, } a \neq 0$$

- א. הוכיחו כי לכל ערך של  $k$  הישרים הללו נחתכים.  
 ב. מצאו את  $a$  אם ידוע כי כאשר  $k = 6$  נקודת החיתוך היא  $\left(\frac{1}{3}, 1\right)$ .  
 ג. עבור איזה ערך של  $k$  נקודת החיתוך תהיה  $(2, 1)$ ?  
 ד. הראו כי נקודת החיתוך של הישרים נמצאת

$$\text{על גרף הפונקציה: } \frac{4y}{x} = k^2 - 5k + 6$$

**תשובות סופיות:**

(1) א. i.  $a \neq \pm 1$  ii.  $a = -1$  iii.  $a = 1$  ב.  $-1 < a < 0$

(2) א.  $m \neq 1, -5, \left(\frac{m-2}{m-1}, \frac{m}{m-1}\right)$

ב. פתרון יחיד:  $m \neq 1, -5$ , אינסוף פתרונות:  $m = -5$ , אף פתרון:  $m = 1$ .  
ג. הוכחה.

ד. i.  $1 < m < 2$  ii.  $0 < m < 1$  iii.  $m \neq -5, m < 1, m > 2$

(3) א. i.  $k \neq 3, -1$  ii.  $k = 3$  iii.  $k = -1$  ב.  $\left(\frac{k^2+3k+10}{k+1}, \frac{8}{k+1}\right)$

(4) א. i.  $k \neq 0, \pm 2$  ii.  $k = 2$  iii.  $k = 0, -2$  ב.  $\left(\frac{k-3}{k+2}, \frac{3k+1}{k+2}\right)$

(5) א. i.  $k \neq 0, 3$  ii.  $k = 3$  iii.  $k = 0$  ב.  $\left(\frac{k-4}{k-3}, \frac{6-k}{2k-6}\right)$

(6) א.  $k = -1$  ב. כן. ג.  $k = 3$

(7) א.  $\left(a+3b, -\frac{3a}{b}\right)$  ג.  $a = -2, b = 2$

(8) א.  $a = 1, b = -9$  ג. ii.

(9) א.  $k = 2, 7$  ב.  $\left(\frac{k^2-9k+112}{k^2-9k+14}, \frac{7k}{k^2-9k+14}\right)$  ג.  $k = 8$

(10) א. הוכחה. ב.  $a = 1$  ג.  $k = 1$

## חקירת משוואות ממעלה ראשונה עם שורשים:

### שאלות:

(1) לפניכם המשוואה:  $(m-1)x = \sqrt{m-1}$ .

מצאו עבור אלו ערכי  $m$  יש למשוואה:

א. פתרון יחיד (ובטאו אותו באמצעות  $m$ ).

ב. אינסוף פתרונות.

ג. אף פתרון.

(2) לפניכם המשוואה:  $\frac{x-m}{\sqrt{3x-2}} + \sqrt{3x-2} = \frac{mx}{\sqrt{3x-2}}$ .

מצאו עבור אלו ערכי  $m$  יש למשוואה:

א. פתרון יחיד (ובטאו אותו באמצעות  $m$ ).

ב. אינסוף פתרונות.

ג. אף פתרון.

### תשובות סופיות:

(1) א. פתרון יחיד:  $m > 1$  והוא:  $x = \frac{1}{\sqrt{m-1}}$  ב.  $m = 1$  ג.  $m < 1$ .

(2) א. פתרון יחיד:  $\frac{6}{5} < m < 4$  והוא:  $x = \frac{m+2}{4-m}$  ב. אינסוף:  $\emptyset$  ג. אף פתרון:  $m \geq 4$ ,  $m \leq \frac{6}{5}$ .

## חקירה של משוואות ממעלה ראשונה עם ערך מוחלט:

### סיכום כללי:

$$\cdot |x| = \begin{cases} x & x \geq 0 \\ -x & x < 0 \end{cases} \text{ : הגדרת ערך מוחלט}$$

- משוואה מהצורה:  $|A| = |B|$  תפוצל לשתי משוואות:  $A = B$  או  $A = -B$ . יש לחקור כל מקרה בנפרד ולאחד פתרונות.
- עבור משוואות המכילות ביטויים עם ערכים מוחלטים יש להפריד עבור כל מקרה לפי הגדרת הערך המוחלט. לבסוף יש לאחד פתרונות.
- למשוואה מהצורה:  $|x| = k$  (כאשר  $x$  הוא המשתנה ו- $k$  הוא פרמטר) יתכנו:
  - שני פתרונות אם  $k > 0$ .
  - פתרון אחד (והוא  $x = 0$ ) אם  $k = 0$ .
  - אף פתרון אם  $k < 0$ .

### שאלות:

(1) חקור את המשוואה הבאה:  $|x - 2m| = |x + 1|$ .

(2) חקור את המשוואה הבאה:  $|mx - 3x| = |x - m|$ .

(3) חקור את המשוואה הבאה:  $\frac{mx^2}{|x| - 1} - m|x| = 2m + 1$ .

(4) נתונה מערכת המשוואות הבאה: 
$$\begin{cases} y + |x - 2| = 3 \\ |x + y| = m \end{cases}$$

מצא עבור אלו ערכי  $m$  יש למערכת:

- א. פתרון אחד בלבד.
- ב. שני פתרונות שונים.
- ג. אינסוף פתרונות.

**תשובות סופיות:**

(1) פתרון יחיד:  $m \neq -\frac{1}{2}$  . אף פתרון:  $\emptyset$  . אינסוף:  $m = -\frac{1}{2}$  .

(2) פתרון יחיד:  $m = 0$  והוא  $x = 0$  . אף פתרון:  $\emptyset$  .

שני פתרונות:  $m \neq 0$  והם:  $x_{1,2} = -\frac{2m}{3}, \frac{12m}{5}$  .

(3) עבור:  $m = -\frac{1}{2}$  יש פתרון יחיד:  $x = 0$  .

עבור:  $m > 0, -\frac{1}{2} < m < 0, m < -1$  יש שני פתרונות.

עבור:  $m = 0, -1 < m < -0.5$  אין פתרון כלל.

(4) א.  $m = 0, m > 5$  . ב.  $0 < m < 5$  . ג.  $m = 5$  .

# קורס מתמטיקה להנדסאי טכנולוגיות מים

פרק 5 - חקירת משוואה ממעלה שנייה

תוכן העניינים

- 1. פתרון משוואות ממעלה שנייה עם פרמטר ..... 97
- 2. חקירה של משוואה ממעלה שנייה ..... 98
- 3. חקירות עם קדקוד פרבולה ..... 107

## פתרון משוואות ממעלה שנייה עם פרמטר:

### סיכום כללי:

משוואות מהצורה:  $ax^2 + bx + c = 0$  המכילות פרמטר כלשהו,  $m$ , המגולם בתוך הביטויים של המקדמים  $a$ ,  $b$  ו- $c$  נקראות משוואות עם פרמטר. פתרון של משוואה עם פרמטר יתבצע באופן רגיל, אך יכול להכיל את הפרמטר.

### שאלות:

(1) פתור את המשוואה:  $x^2 + mx - 12m^2 = 0$ .

(2) פתור את המשוואה:  $2x^2 + 5m^2 = (11m + 1)x - 5m$ .

### תשובות סופיות:

(1)  $x_1 = 3m$ ,  $x_2 = -4m$

(2)  $x_1 = 5m$ ,  $x_2 = \frac{m+1}{2}$

## חקירה של משוואה ממעלה שנייה:

### סיכום כללי:

#### המשוואה הריבועית:

תהא המשוואה הריבועית:  $ax^2 + bx + c = 0$  כאשר  $a \neq 0$ .  
 נגדיר:  $\Delta = b^2 - 4ac$  ונאמר כי:

- למשוואה יהיו שני פתרונות ממשיים שונים אם:  $\Delta > 0$ .
- למשוואה יהיה פתרון ממשי אחד אם:  $\Delta = 0$ .
- למשוואה לא יהיו שני פתרונות ממשיים כלל אם:  $\Delta < 0$ .

אם  $a = 0$  תתקבל משוואה ליניארית מהצורה:  $bx + c = 0$ .

- למשוואה זו יהיה פתרון ממשי אחד אם  $b \neq 0$ .
- למשוואה לא יהיו פתרונות כלל אם:  $b = 0$  ו-  $c \neq 0$ .

אם  $b = 0$  וגם  $c = 0$  למשוואה יהיו אינסוף פתרונות ממשיים.

#### הפונקציה הריבועית:

תהא הפונקציה הריבועית:  $y = ax^2 + bx + c$  כאשר  $a \neq 0$ .  
 נגדיר:  $\Delta = b^2 - 4ac$  ונאמר כי לפונקציה נקודות חיתוך עם ציר ה- $x$  באופן הבא:

- אם  $a > 0$  תתקבל פרבולה ישרה (מחייכת):
  - עבור  $\Delta > 0$  הפרבולה תחתוך את ציר ה- $x$  בשתי נקודות שונות.
  - עבור  $\Delta = 0$  הפרבולה תשיק לציר ה- $x$  (חיתוך בנקודה אחת).
  - עבור  $\Delta < 0$  הפרבולה תהיה מרחפת (ללא חיתוך עם ציר ה- $x$  כלל).
- אם  $a < 0$  תתקבל פרבולה הפוכה (עצובה):
  - עבור  $\Delta > 0$  הפרבולה תחתוך את ציר ה- $x$  בשתי נקודות שונות.
  - עבור  $\Delta = 0$  הפרבולה תשיק לציר ה- $x$  (חיתוך בנקודה אחת).
  - עבור  $\Delta < 0$  הפרבולה תהיה מרחפת (ללא חיתוך עם ציר ה- $x$  כלל).

- אם  $a=0$  תתקבל פונקציה ליניארית:  $y = bx + c$  ולה:

○ עבור  $b > 0$  יתקבל ישר עולה החותך את ציר ה- $x$  ב- $\left(-\frac{c}{b}, 0\right)$ .

○ עבור  $b < 0$  יתקבל יורד עולה החותך את ציר ה- $x$  ב- $\left(-\frac{c}{b}, 0\right)$ .

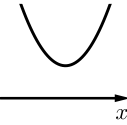
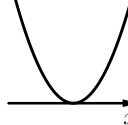
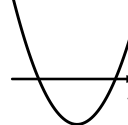
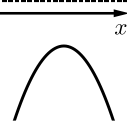
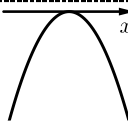
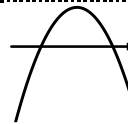
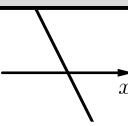
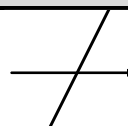



- אם  $b=0$  יתקבל ישר  $y=c$  וכעת:

○ אם  $c > 0$  הישר כולו מעל לציר ה- $x$  ומקביל לו.

○ אם  $c < 0$  הישר כולו מתחת לציר ה- $x$  ומקביל לו.

○ אם  $c=0$  הישר מתלכד עם ציר ה- $x$ .

ניתן לסכם את כל המקרים באופן הבא:

$\Delta < 0$	$\Delta = 0$	$\Delta > 0$	תנאים	פירוט מילולי	
			$a > 0$	תיאור גרפי של $y = ax^2 + bx + c$ עבור $a \neq 0$	
			$a < 0$		
		$b < 0$	$b > 0$		
				$a = 0$ $b \neq 0$	תיאור גרפי של כאשר $y = bx + c$ $a = 0$ ו- $b \neq 0$
$c = 0$	$c < 0$	$c > 0$			
			$a = 0$ $b = 0$	תיאור גרפי של $y = c$ כאשר $a = 0$ ו- $b = 0$	

**שאלות:**

(1) נתונה המשוואה:  $(3-m)x^2 + 4mx - 2m = 0$ ,  $(m \neq 3)$ .

מצא לאלו ערכי  $m$  למשוואה:

א. שני פתרונות ממשיים שונים.

ב. פתרון ממשי אחד.

ג. אין פתרונות ממשיים כלל.

(2) נתונה הפונקציה:  $y = 2mx^2 + mx - 1$ .

מצא לאלו ערכי  $m$  הפונקציה אינה חותכת את ציר ה- $x$ .

(3) נתונה הפונקציה:  $y = (m^2 - 9)x^2 + (m + 3)x + 4$ ,  $(m \neq \pm 3)$ .

מצא לאלו ערכי  $m$  הפונקציה נמצאת מעל ציר ה- $x$  לכל ערך של  $x$ .

(4) נתון אי השוויון:  $mx^2 > (m + 4)(x - 1) - x^2$ .

מצא לאלו ערכי  $m$  אי השוויון מתקיים לכל ערך של  $x$ .

(5) נתונה המשוואה הבאה:  $-m(x-1)^2 + 2(m+16) = x(6-x(2m-3)) + 1$ .

א. מצא עבור אלו ערכי  $m$  יש למשוואה:

i. שני פתרונות ממשיים שונים.

ii. פתרון ממשי אחד.

iii. אף פתרון ממשי.

ב. מצא את הפתרון היחיד עבור ערכי ה- $m$  המתאימים במידה והוא קיים.

(6) נתונה המשוואה הבאה:  $m^2x(9x+1)+1=0$ .

א. מצא עבור אלו ערכי  $m$  יש למשוואה:

i. שני פתרונות ממשיים שונים.

ii. פתרון ממשי אחד.

iii. אף פתרון ממשי.

ב. מצא את הפתרון היחיד עבור ערכי ה- $m$  המתאימים במידה והוא קיים.

(7) נתונה המשוואה:  $mx^2 - (9m+4)x + 20m+16 = 0$ .

- א. הראה שעבור כל ערך של  $m$  יש למשוואה לפחות פתרון ממשי אחד.  
 ב. פתור את משוואה והראה כי אחד השורשים הוא מספר קבוע שאינו תלוי ב- $m$ .

(8) לפניך הפונקציה הבאה:  $f(x) = (m^2 - m - 2)x^2 + 2(m - 2)x + 4$ .  
 ענה על השאלות הבאות:

- א. עבור אלו ערכי  $m$  גרף הפונקציה חותך את ציר ה- $x$  בשתי נקודות שונות?  
 ב. עבור אלו ערכי  $m$  גרף הפונקציה חותך את ציר ה- $x$  בנקודת אחת בלבד?  
 ג. עבור אלו ערכי  $m$  גרף הפונקציה לא חותך את ציר ה- $x$  כלל?  
 ד. עבור אלו ערכי  $m$  גרף הפונקציה חיובי לכל ערך של  $x$ ?  
 ה. עבור אלו ערכי  $m$  גרף הפונקציה שלילי לכל ערך של  $x$ ?

(9) נתונה הפונקציה:  $f(x) = kx^2 - 5kx + 6k + 1$ .

- א. עבור אלו ערכי  $k$  גרף הפונקציה יהיה כולו מעל לציר ה- $x$ ?  
 ב. עבור איזה ערך של  $k$  יתקבל גרף פרבולה הנוגעת בציר ה- $x$ ?

(10) עבור אלו ערכי  $m$  גרף הפונקציה:  $f(x) = (k^2 - 5k - 6)x^2 + (2 - 3k)x + 2$   
 הוא אי-שלילי לכל ערך של  $x$ ?

(11) נתונות הפונקציות:  $f(x) = x^2 + 4x + 2m + 2$  ו-  $g(x) = (1 - m)x^2 - 3mx - 1.5$ .

- א. מצא עבור אלו ערכי  $m$  נחתכים הגרפים של הפונקציות:  
 i. בשתי נקודות שונות.  
 ii. בנקודה אחת בלבד.  
 iii. באף נקודה.  
 ב. מצא לאלו ערכי  $m$  יהיה גרף הפונקציה  $f(x)$  כולו מתחת לגרף הפונקציה  $g(x)$ .

**12** נתונה הפונקציה:  $f(x) = 2kx^2 + 6kx + 8k + 2$ .

א. עבור איזה ערך של  $k$  גרף הפונקציה יהיה ישר העובר ברביעים הראשון והשני בלבד?

מגדירים פונקציה נוספת:  $g(x) = kx^2 - 6x - 10$ .

ב. האם קיימים ערכי  $k$  עבורם גרף הפונקציה  $f(x)$  הוא מעל גרף

הפונקציה  $g(x)$  לכל  $x$ ? הראה חישוב מתאים.

ג. הוכח כי קיים ערך של  $k$  עבורו גרפים של שתי הפונקציות משיקים זה לזה ומצא אותו.

**13** נתונה הפונקציה הריבועית:  $f(x) = 2x^2 - (5m+7)x + 3m^2 + 8m + 5$ .

א. הראה כי גרף הפונקציה חותך את ציר ה- $x$  לפחות פעם אחת לכל ערך של  $m$ .

ב. מצא את שורשי הפונקציה.

ג. עבור אלו ערכי  $m$  סכום השורשים גדול מ-3.5.

ד. מהם שורשי הפונקציה כאשר:  $m = 0$ ?

**14** נתונה המשוואה הבאה:  $(k+1)x^2 + (k^2 - 4k - 5)x - 54 = 0$ .

א. ענה על שני החלקים הבאים:

i. עבור אלו ערכי  $k$  יהיו פתרונות המשוואה שני מספרים נגדיים?

ii. מהם פתרונות המשוואה עבור ערכי ה- $k$  שמצאת?

ב. הראה כי לא קיים ערך של  $k$  עבורו פתרונות המשוואה:

$$(k-4)x^2 + (6k - k^2 - 8)x + 5k - 10 = 0$$

הם מספרים נגדיים.

**15** נתונה הפונקציה הבאה:  $f(x) = mx^2 + (m-2)x + m^2 + 3m - 10$ .

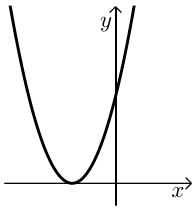
א. מצא עבור אלו ערכי  $m$  גרף הפונקציה עובר בראשית הצירים.

ב. מצא את נקודות החיתוך שבין הגרפים המתקבלים עבור כל ערכי ה- $m$  שמצאת בסעיף א'.

**16** מצא עבור אלו ערכי  $m$  למשוואה:  $(4-m)x^2 + (m+2)x + m^2 - 12m - 28 = 0$

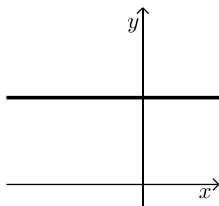
יהיו שני פתרונות ממשיים שונים שאחד מהם הוא אפס.

17 נתונה משפחת הפרבולות הבאה:  $f(x) = 2x^2 + (m+1)x + m^2 + 2m - 2.5$ .



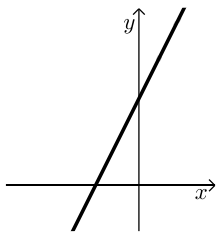
- א. מצא ערך של  $m$  עבורו גרף הפרבולה השייכת למשפחת הפונקציות הנ"ל היא מהצורה:  
 ב. עבור ערך ה- $m$  שמצאת בסעיף הקודם מצא את התחום של  $k$  עבורו יהיה לגרף הפרבולה ולישר  $y = kx - 4$  שתי נקודות חיתוך.

18 נתונה הפונקציה הבאה:  $f(x) = (m^2 - 5m + 4)x^2 + (2m - 2)x + 1$ .



- א. עבור אלו ערכים של  $m$  הפונקציה תחתוך את ציר ה- $x$  בשתי נקודות שונות?  
 ב. מצא ערך של  $m$  עבורו גרף הפונקציה השייך למשפחת הפונקציות הנ"ל יהיה מהצורה שבצד, וכתוב את משוואת הישר המתקבלת במקרה זה.  
 ג. הגרף שאת משוואתו מצאת בסעיף הקודם חותך את גרף הפונקציה  $f(x)$  בשתי נקודות שונות. הראה כי אחת מהן אינה תלויה ב- $m$ .  
 ד. עבור אלו ערכי  $m$  נקודת החיתוך שתלויה ב- $m$  תהיה מימין לנקודת החיתוך שמצאת בסעיף הקודם?

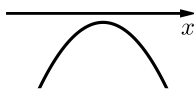
19 נתונה הפונקציה:  $f(x) = \frac{4x(mx+2)+4-m}{4}$ ,  $m$  פרמטר חיובי.



- א. הראה כי לכל הגרפים המייצגים את משפחת הפונקציות הנ"ל יש נקודת חיתוך עם ציר ה- $x$  שאינה תלויה ב- $m$  ומצא את נקודה זו.  
 ב. עבור איזה ערך של  $m$  גרף הפונקציה יהיה מיוצג ע"י ישר מהצורה:  
 ג. הראה כי קיים תחום של  $x$  אשר לא תלוי ב- $m$  ובו גרף הפונקציה נמצא תמיד מתחת לישר שמצאת בסעיף הקודם ומצא את תחום זה.

20 נתונה הפונקציה:  $f(x) = 3m^2x^2 + 4mx + 2$ .

- א. הוכח כי הפונקציה נמצאת תמיד מעל לציר ה- $x$  עבור כל ערך של  $m$ .  
 ב. מגדירים פונקציה חדשה באופן הבא:  $y = \frac{mx^2 + 2x(m+2) + m}{3m^2x^2 + 4mx + 2}$ . מצא עבור אלו ערכי  $m$  הפונקציה  $y$  היא שלילית.



**(21)** נתונה הפונקציה:  $f(x) = mx^2 + (2m+1)x - \frac{1}{4}$ .

א. עבור אלו ערכי  $m$  גרף הפונקציה השייך למשפחת הפונקציות הנ"ל יהיה מהצורה:

ב. מגדירים פונקציה חדשה באופן הבא:  $y = \frac{(m^2 - 9)x^2 + (m + 3)x - 1}{mx^2 + (2m + 1)x - \frac{1}{4}}$ .

הראה כי הפונקציה  $y$  חיובית בתחום שמצאת בסעיף הקודם.

ג. דרך נקודת החיתוך של גרף הפונקציה  $y$  עם ציר ה- $y$  מעבירים ישר המקביל לציר ה- $x$ .

i. כתוב את משוואת ישר זה.

ii. מצא עבור אלו ערכים של  $m$  גרף הפונקציה חותך את הישר

בנקודה שבה:  $x = -9$ .

**תשובות סופיות:**

- (1) א.  $m > 0$  או  $m < -3$  וגם  $m \neq 3$     ב.  $m = 0, -3$     ג.  $-3 < m < 0$ .
- (2)  $-8 < m \leq 0$
- (3)  $m < -3$  או  $m > 3\frac{2}{5}$
- (4)  $m > 0$
- (5) א. i.  $m > 3$     ii. אף  $m$     iii.  $m < 3$
- ב. לא קיים מקרה בו יש למשוואה פתרון יחיד.
- (6) א. i.  $m < -6, m > 6$     ii.  $m = \pm 6$     iii.  $m \neq 0, -6 < m < 6$
- ב. בשני המקרים יתקבל:  $x = -\frac{1}{18}$
- (7) א. מתקבל:  $\Delta = (m+4)^2$  שתמיד אי-שלילי ובמקרה הלא-ריבועי מתקבלת משוואה עם פתרון אחד.
- ב.  $m_{1,2} = 4, \frac{5m+4}{m}$
- (8) א.  $m \neq -1, -2 < m < 2$     ב.  $m = -1, -2$     ג.  $m < -2, m \geq 2$
- ד.  $m = 2, -2 < m < -1$     ה. אף  $m$
- (9) א.  $0 \leq k < 4$     ב.  $k = 4$
- (10)  $-26 \leq k \leq -2$
- (11) א. i.  $m < -8, m > -2, m \neq 0$     ii.  $m = 0, -2, -8$     iii.  $-8 < m < -2$
- ב.  $-8 < m < -2$
- (12) א.  $k = 0$     ב. לא. אין פתרון לאי-שוויון:  $f(x) > g(x)$
- ג. עבור אי-השוויון של סעיף ב' מתקבל:  $\Delta = 4(k+3)^2$  ולכן כאשר  $k = -3$  הגרפים נוגעים זה בזה בנקודה אחת.
- (13) א. הוכחה.    ב.  $x_{1,2} = m+1, 1.5m+2.5$     ג.  $m > 0$
- ד.  $x_{1,2} = 1, 2.5$
- (14) א. i.  $k = 5$     ii.  $x = \pm 3$     ב. הוכחה.
- (15) א.  $m = 2, -5$     ב.  $(0,0), (-1,2)$
- (16)  $m = 14$
- (17) א.  $m = 1$ . כאשר:  $m = -3$  נקבל גרף:  $y = 2x^2 - 2x + 0.5$  המשיק לציר  $x$  מימין לראשית ולכן נפסל.    ב.  $k < -4, k > 8$
- (18) א.  $m > 1, m \neq 4$     ב.  $f(x) = 1, m = 1$     ג. הנקודה היא:  $(0,1)$
- ד.  $m \neq 1, m < 4$
- (19) א. הנקודה היא:  $(-0.5, 0)$     ב.  $m = 0$     ג.  $-0.5 < x < 0.5$

**(20)** א. מתקבל:  $\Delta = -8m^2$  ולכן לגרף הפרבולה אין חיתוכים כלל ומכיוון ש-A אי-שלילי הרי שמדובר בפרבולה מרחפת חיובית. במקרה הישר מתקבל ישר המקביל לציר ה- $x$  שגם כן כולו חיובי.  
 ב. מאחר והמכנה תמיד חיובי (ממקודם) יש לדרוש תנאים שיקיימו מונה שלילי ( $\Delta < 0, a < 0$  - עבור המונה) נקבל:  $m < -1$ .

**(21)** א.  $-1 < m < -\frac{1}{4}$       ב. הוכחה.      ג. i.  $y = 4$

ii.  $m = 5, -1\frac{7}{9}$

## חקירות עם קדקוד פרבולה:

### סיכום כללי:

תהא הפונקציה הריבועית:  $y = ax^2 + bx + c$  כאשר  $a \neq 0$ . נגדיר:  $\Delta = b^2 - 4ac$ .  
 התיאור הגרפי של הפונקציה הריבועית הוא פרבולה.

עבור  $a \neq 0$  נקבל כי קדקוד הפרבולה הוא:  $\left(-\frac{b}{2a}, -\frac{\Delta}{4a}\right)$ .

• שאלות העוסקות בקדקוד חיובי/שלילי נדרוש:  $-\frac{\Delta}{4a} > 0$  או  $-\frac{\Delta}{4a} < 0$  בהתאמה.

• שאלות העוסקות בקדקוד הנמצא מימין/משמאל לציר ה- $y$  נדרוש  $-\frac{b}{2a} > 0$

או  $-\frac{b}{2a} < 0$  בהתאמה.

• שאלות העוסקות בקדקוד שנמצא מעל/מתחת לישר  $y = n$  או מימין/משמאל

לישר  $x = k$  נדרוש  $-\frac{\Delta}{4a} > n$  ו-  $-\frac{b}{2a} > k$  בהתאמה.

• שאלות העוסקות בקדקוד שבאחד הרביעים נדרוש  $-\frac{b}{2a} > 0$  ו-  $-\frac{\Delta}{4a} > 0$

לפי הרביע המבוקש.

### שאלות:

(1) נתונה הפונקציה:  $f(x) = (m+3)x^2 + (3m+14)x + 2m+7$ .

א. עבור אלו ערכי  $m$  גרף הפונקציה הוא פרבולה החותכת את ציר ה- $x$  בשתי נקודות?

ב. הבע באמצעות  $m$  את שיעורי קדקוד הפרבולה של גרף הפונקציה הנתונה.

ג. עבור אלו ערכי  $m$  קדקוד הפרבולה יהיה וודאי מתחת לישר:  $y = -4$ ?

ד. עבור אלו ערכי  $m$  מתקיימים התנאים של סעיף א' ו-ג' יחד?

$$(2) \quad \text{נתונה הפרבולה הבאה: } f(x) = x^2 - 3(m-2)x + 2m^2 - 8m + 7.$$

- א. הוכח את הטענות הבאות:
- גרף הפרבולה חותך את ציר ה- $x$  בשתי נקודות עבור כל ערך של  $m$ .
  - קדקודי כל הפרבולות המיוצגות ע"י תבנית הפונקציה הנתונה נמצאים מתחת לציר ה- $x$ .
- ב. עבור איזה ערך של  $m$  גרף הפרבולה יחתוך את ציר ה- $x$  בשתי נקודות הנמצאות באותו מרחק מראשית הצירים?
- ג. עבור ערך ה- $m$  שמצאת בסעיף הקודם מצא את נקודות החיתוך על ציר ה- $x$ .
- ד. הראה כי קדקוד הפרבולה המתקבלת בעת הצבת ערך ה- $m$  הנ"ל נמצא על ציר ה- $y$ .

$$(3) \quad \text{נתונה הפונקציה: } f(x) = (m^2 - 2m - 3)x^2 + 8x + 0.5.$$

- א. עבור אלו ערכי  $m$  גרף הפונקציה הוא פרבולה?
- ב. עבור אלו ערכי  $m$  גרף הפונקציה הוא פרבולה החותכת את ציר ה- $x$  בשתי נקודות?
- ג. הבע באמצעות  $m$  את שיעורי קדקוד הפרבולה.
- ד. הוכח כי קדקודי כל הפרבולות נמצאים על הישר:  $2y = 8x + 1$  עבור כל ערך של  $m$  עבורו מתקבלת פרבולה.

$$(4) \quad \text{נתונה הפונקציה: } f(x) = (k^2 - 2k + 15)x^2 + kx + 12.$$

- א. הוכח כי עבור כל ערך של  $k$  גרף הפונקציה לא נוגע בציר ה- $x$  כלל.
- ב. הוכח כי קדקוד הפרבולה המיוצגת ע"י התבנית הנ"ל תמיד מעל לציר ה- $x$ .
- ג. עבור איזה ערך של  $k$  קדקוד הפרבולה יהיה על ציר ה- $y$ ?
- ד. מצא את שיעורי קדקוד הפרבולה במקרה זה.

$$(5) \quad \text{נתונה הפונקציה הבאה: } f(x) = (k^2 - 9)x^2 + (k + 3)x - 1.$$

- א. עבור אלו ערכי  $k$  גרף הפונקציה אינו חותך את ציר ה- $x$ ?
- ב. הבע באמצעות  $k$  את שיעורי קדקוד הפרבולה המיוצגת ע"י התבנית של  $f(x)$ .
- ג. מצא עבור אלו ערכי  $k$  קדקוד הפרבולה יהיה ברביע הראשון.
- ד. האם קיים ערך של  $k$  עבורו קדקוד הפרבולה נמצא על ציר ה- $y$ ? נמק את תשובתך.

6 נתונה הפונקציה :  $f(x) = (m^2 - 4)x^2 + 5mx + 6$

- א. הראה כי הפונקציה חותכת את ציר ה- $x$  לפחות פעם אחת עבור כל ערך של  $m$ .  
 ב. עבור אלו ערכי  $m$  גרף הפונקציה הוא פרבולת מינימום?  
 ג. הראה כי קדקוד הפרבולה המתקבל עבור ערכי ה- $m$  שמצאת בסעיף הקודם נמצא תמיד מתחת לציר ה- $x$ .

7 נתונה הפונקציה :  $f(x) = (m^2 - 8m + 12)x^2 + (m - 2)x + 2$

- א. עבור אלו ערכי  $m$  גרף הפונקציה יהיה כולו מעל לציר ה- $x$ ?  
 ב. עבור אלו ערכי  $m$  גרף הפונקציה הוא פרבולה מרחפת חיובית שקדקודה משמאל לישר :  $x = -\frac{1}{2}$ .  
 ג. האם ייתכן כי גרף הפונקציה יכול להיות פרבולת מקסימום שקדקודה הוא משמאל לישר :  $x = -\frac{1}{2}$ ? נמק והראה חישוב מתאים.

8 נתונות הפונקציות הבאות :  $f(x) = (m^2 - 4)x^2 + 2x + 1$  ,  $g(x) = (m + 2)x^2 + (5 - m)x + 3$

- א. ענה על השאלות הבאות:  
 i. מצא ערך של  $m$  עבורו הגרפים משיקים זה לזה.  
 ii. מצא ערך של  $m$  עבורו הגרפים חותכים זה את זה בנקודה אחת בלבד.  
 iii. הסבר מדוע בכל מקרה התקבל ערך  $m$  שונה.  
 ב. עבור אלו ערכי  $m$  הגרפים של הפונקציות הם פרבולות מינימום המקיימות שקדקוד הפרבולה המיוצגת ע"י הפונקציה  $f(x)$  נמצא מימין לקדקוד הפרבולה המיוצגת ע"י  $g(x)$ ?

9 נתונות הפונקציות הבאות :  $f(x) = (m^2 - 9)x^2 + 7x + 5$  ,  $g(x) = (m - 3)x^2 + (4m - 3)x + 1$

- א. עבור אלו ערכי  $m$  הגרפים נחתכים בשתי נקודות שונות?  
 ב. ענה על השאלות הבאות:  
 i. עבור איזה ערך של  $m$  הגרפים הם פרבולות נוגעות זו בזו?  
 ii. עבור איזה ערך של  $m$  הגרפים חותכים זה את זה בנקודה אחת בלבד.  
 iii. הסבר את ההבדל בין הערכים של  $m$  שהתקבלו בחלק i ובחלק ii.  
 ג. מצא את נקודת החיתוך של שני הגרפים.  
 ד. עבור אלו ערכי  $m$  הסכום של שיעורי ה- $x$  של נקודות קדקודי הפרבולות של שתי הפונקציות יהיה קטן מ-1?

**תשובות סופיות:**

(1) א.  $m < -28$  ,  $m > -4$  ,  $m \neq -3$  . ב.  $\left( \frac{-3m-14}{2m+6}, \frac{-m^2-32m-112}{4m+12} \right)$

ג.  $m > -3$  . ד.  $m > -3$  .

(2) א. i. מתקבל:  $\Delta = m^2 - 4m + 8$  שחיובי תמיד.

ii שיעור ה- $y$  של הקדקוד הוא:  $-\frac{\Delta}{4}$  אשר שלילי תמיד. ב.  $m = 2$

ג.  $(\pm 1, 0)$  . ד. הקדקוד:  $(0, -1)$  .

(3) א.  $m \neq 3, -1$  . ב.  $-5 < m < 7$  . ג.  $\left( \frac{-4}{m^2-2m-3}, \frac{m^2-2m-35}{2(m^2-2m-3)} \right)$

ד. יש להציב את הקדקוד בישר ולקבל שוויון אמת.

(4) א. המקדם  $a$  תמיד חיובי ומתקבל:  $\Delta = -47k^2 + 96k - 720$  שתמיד שלילי.

מכאן שמדובר בפרבולה מרחפת עבור כל  $k$  . ג.  $k = 0$  . ד.  $(0, 12)$  .

(5) א.  $-3 \leq k < 1.8$  . ב.  $\left( \frac{1}{2(3-k)}, \frac{9-5k}{4(k-3)} \right)$  . ג.  $1.8 < k < 3$  .

ד. לא. מכיוון שלא קיים ערך של  $k$  עבורו שיעור ה- $x$  של קדקוד הפרבולה יהיה אפס.

(6) א. מתקבל:  $\Delta = m^2 + 96$  המעיד כי תמיד יש לפונקציה שני חיתוכים וכאשר  $m = \pm 2$

מתקבלים שני ישרים החותכים את ציר ה- $x$  . ב.  $m < -2$  ,  $m > 2$  .

(7) א.  $m \leq 2$  ,  $m > 6\frac{4}{7}$  . ב.  $6\frac{4}{7} < m < 7$  . ג. לא.

(8) א. i.  $m = -1\frac{4}{9}$  . ii.  $m = -2$  . iii. במקרה i מדובר בפרבולות אשר

יכולות להשיק ובמקרה ii מדובר בשני ישרים אשר רק נחתכים. ב.  $3 < m < 4$  .

(9) א.  $m \neq 3, -2$  ,  $m < 3\frac{1}{16}$  . ב. i.  $m = 3\frac{1}{16}$  . ii.  $m = 3, -2$  .

iii. במקרה i מדובר במשוואה ריבועית ובנקודת השקה, ובמקרה ii מדובר במשוואה ליניארית ובנקודת חיתוך.

ג. עבור  $m = -2$  מתקבלת:  $\left( -\frac{2}{9}, 3\frac{16}{81} \right)$  , עבור:  $m = 3$  מתקבלת:  $(2, 19)$  .

ד.  $m < -3$  ,  $-2.72 < m < 1.22$  ,  $m > 3$  .

# קורס מתמטיקה להנדסאי טכנולוגיות מים

פרק 6 - נוסחאות וייטה

תוכן העניינים

1. הגדרת נוסחאות וייטה וחישובים יסודיים ..... 111
2. חקירת משוואות עם נוסחאות וייטה ..... (ללא ספר)

## הגדרת נוסחאות וייטה וחישובים יסודיים:

### סיכום כללי:

#### הגדרה:

נתונה הפונקציה הריבועית:  $y = ax^2 + bx + c$ , כאשר:  $a \neq 0, \Delta > 0$ .

אם  $x_1$  ו- $x_2$  הם שורשי המשוואה:  $ax^2 + bx + c = 0$  אז מתקיים:  $x_1 \cdot x_2 = \frac{c}{a}$ ,  $x_1 + x_2 = -\frac{b}{a}$ .

לקשרים אלו קוראים בשם **נוסחאות וייטה** והם תקפים רק במשוואה ריבועית שבה  $\Delta > 0$ .

### שאלות:

1) לפניך משוואות ריבועיות. מבלי לפתור, מצא את הסכום ואת מכפלת השורשים שלהם:

א.  $x^2 + 5x - 8 = 0$ .

ב.  $3x^2 - 7x + 4 = 0$ .

ג.  $x^2 + 9x - 14 = 0$ .

ד.  $13x - 6x^2 + 7 = 0$ .

2) נתונה משוואה ריבועית:  $ax^2 + 3x + 5 = 0$ . מצא את  $a$  אם ידוע כי למשוואה שני שורשים ממשיים שונים אשר סכומם הוא 3.

3) נתונה משוואה ריבועית:  $\alpha x^2 + (\beta - \alpha)x - 16 = 0$ ,  $(\alpha, \beta)$  פרמטרים). מצא את ערכי הפרמטרים  $\alpha$  ו- $\beta$  אם ידוע כי למשוואה שני שורשים ממשיים שונים אשר סכומם הוא -2 ומכפלתם היא -16.

4) כתוב משוואה ריבועית אשר לה שני שורשים ממשיים שונים,  $x_1$  ו- $x_2$ .

שמקיימים:  $x_1 + x_2 = 5$  ו- $x_1 \cdot x_2 = -2$ .

כמה משוואות כאלה תיתכנה? נמק.

## תשובות סופיות:

$$(1) \quad \text{א. } x_1 + x_2 = -5, x_1 x_2 = -8 \quad \text{ב. } x_1 + x_2 = 2\frac{1}{3}, x_1 x_2 = 1\frac{1}{3}$$

$$\text{ג. } x_1 + x_2 = -9, x_1 x_2 = -14 \quad \text{ד. } x_1 + x_2 = \frac{6}{13}, x_1 x_2 = \frac{7}{13}$$

$$(2) \quad a = -1$$

$$(3) \quad \alpha = 1, \beta = 3$$

$$(4) \quad \text{אם } a = 1 \text{ אז: } x^2 - 5x - 2 = 0$$

$$\text{יש אינסוף משוואות מהצורה: } ax^2 - 5ax - 2a = 0$$

# קורס מתמטיקה להנדסאי טכנולוגיות מים

פרק 7 - חוקי החזקות והשורשים

תוכן העניינים

113	.....	1. חוקי החזקות
118	.....	2. חוקי השורשים
122	.....	3. כתיבה מדעית של מספרים

## חוקי החזקות:

סיכום כללי:

סיכום חוקי החזקות:

$$\begin{array}{lll}
 a^n \cdot a^m = a^{m+n} & .3 & a^1 = a & .2 & a^0 = 1 & .1 \\
 a^m \cdot b^m = (a \cdot b)^m & .6 & (a^n)^m = a^{n \cdot m} & .5 & \frac{a^n}{a^m} = a^{n-m} & .4 \\
 \left(\frac{a}{b}\right)^{-m} = \left(\frac{b}{a}\right)^m & .9 & a^{-m} = \frac{1}{a^m} & .8 & \frac{a^m}{b^m} = \left(\frac{a}{b}\right)^m & .7
 \end{array}$$

שאלות:

(1) פשט את הביטויים הבאים בעזרת החוקים:  $a^n a^m = a^{n+m}$  ו-  $\frac{a^n}{a^m} = a^{n-m}$

$$\begin{array}{lll}
 b^2 b^5 b^{12} b^3 & .ג & t^3 t^5 t^7 & .ב & a^2 a^6 & .א \\
 \frac{c^6}{c^2} & .ו & \frac{n^{14}}{n^9} & .ה & \frac{k^8}{k^3} & .ד \\
 \frac{y^3 y^{15}}{y^4 y^{14}} & .ט & \frac{x^{30}}{x^9 x^{18}} & .ח & \frac{a^3 a^{19}}{a^{15}} & .ז \\
 \frac{5^{20} 5^3 5^{16}}{5^4 5^{22} 5^8} & .יב & \frac{2^{16} 2^2}{2^{10}} & .יא & 3^2 3^3 3^4 & .י
 \end{array}$$

(2) פשט את הביטויים הבאים בעזרת החוקים:  $a^n a^m = a^{n+m}$  ו-  $\frac{a^n}{a^m} = a^{n-m}$

$$\begin{array}{lll}
 \frac{x^8 y^5 y^9 x^2}{y^4 x^4} & .ג & \frac{a^{10} b^{13} a^3}{b^4 b^6 b^2 a^{12}} & .ב & \frac{3^4 2^7}{2^6 3^2} & .א
 \end{array}$$

(3) לפניך הביטוי הבא:  $\frac{3^6 2^{17} 3^3 2^4}{3^4 2^3 2^2}$

מצא  $n$  כך שיתקיים שוויון בין הביטוי  $243 \cdot 2^n$  לבין הביטוי הנתון.

(4) חשב ללא מחשבון את ערכי הביטויים הבאים:

$\frac{9^3 \cdot 27^2}{3^9 \cdot 81}$ .ב.	$\frac{2^3 \cdot 2^7}{2^4 \cdot 2^5}$ .א.	
$2^3 + 2^5$ .ד.	$\frac{10^9 \cdot 25^5 \cdot 8^{-1}}{40^3 \cdot 125^5}$ .ג.	

(5) פשט את הביטויים הבאים בעזרת החוק:  $(a^n)^m = a^{n \cdot m}$ .

$(x^3 x^{10})^2$ .ג.	$(c^3)^{10}$ .ב.	$(a^2)^4$ .א.
$\frac{d^{20} (d^4)^2}{d^{12} (d^3)^2}$ .ו.	$\frac{n^7 n^8}{(n^3)^4}$ .ה.	$\frac{(b^2)^3}{b^2 b^3}$ .ד.
$\frac{(8^3)^8 8^{11}}{(8^2 8)^3 8^8}$ .ט.	$\frac{3^6 (3^3 3^2)^6}{3^{28} (3^2)^3}$ .ח.	$\frac{2^5 (2^4)^2 2^3}{(2^3 2^2)^3}$ .ז.
$\frac{(3^2)^7 5^{10} (5^3)^2}{3^9 5^{16}}$ .יב.	$\frac{(3^2)^6 5^{31} 3^7}{(5^2)^{10} 5^{11} 3^{18}}$ .יא.	$\frac{(2^4)^5 (3^6)^7 2^{20}}{3^{35} 2^{40}}$ .י.

(6) לפניך הביטויים הבאים:  $\left((3^2)^3\right)^4$  ו-  $\left((3^6)^n\right)^2$ .

מצא  $n$  כך שיתקיים שוויון בין שני הביטויים.

(7) חשב ללא מחשבון את הביטויים הבאים:

$\frac{7^{12} 2^2 2^6}{2^5 7^{10} 7}$ .ג.	$\frac{5^{20} 3^{14} 3^8}{3^{20} 5^{12} 5^8}$ .ב.	$\frac{2^3 3^5}{2^2 3^4}$ .א.
---	---	-------------------------------

(8) פשט את הביטויים הבאים:

$125 \cdot 25 \cdot 5^5$ .ג.	$64^2 2^3 8^2$ .ב.	$3^2 9 \cdot 81^2$ .א.
$\frac{\left((3^4)^4\right)^5}{81^3 27^4 3^5}$ .ו.	$\frac{(4^2)^3 16}{64 \cdot 2^3}$ .ה.	$\frac{2^4 \cdot 16^5}{8 \cdot 512}$ .ד.

9 פשט את הביטויים הבאים :

$\frac{(k^2)^{m+2} \cdot k^{1-3m}}{(k^{2m})^3 \cdot \frac{1}{k^{7m-4}}} \quad \text{ב.}$ $\frac{1}{x^2} \cdot \frac{x^{n+3} + x^{n+5}}{x^{n+2}} \quad \text{ד.}$	$\frac{(2a^2b)^3 \cdot (ab^{-3})^2}{4ab^{-2} \cdot \left(\frac{a^2}{b}\right)^4} \quad \text{א.}$ $\frac{4^{b+3}}{4^{b+1} + 4^{b+2}} \quad \text{ג.}$
--	---

10 פשט את הביטויים הבאים בעזרת החוקים:  $(ab)^n = a^n b^n$  ו-  $\left(\frac{a}{b}\right)^n = \frac{a^n}{b^n}$

$(x^{12}y^3)^3 \quad \text{ג.}$ $\left(\frac{a^{14}b^4}{a^6ab^3}\right)^3 \quad \text{ו.}$ $\left(\frac{(b^{12}c)^2 c^{14}}{c(c^3b^5)^4 b^3}\right)^2 \quad \text{ט.}$	$(m^4n^3)^5 \quad \text{ב.}$ $\left(\frac{i^4}{k^3}\right)^7 \quad \text{ה.}$ $\left(\frac{t^7 r^{20} t^3}{r^2 r^{12} t^8}\right)^2 \quad \text{ח.}$	$(a^2b)^3 \quad \text{א.}$ $\left(\frac{a^3}{b^2}\right)^4 \quad \text{ד.}$ $\left(\frac{x^3 y^5 y^2 x^6}{y^4 x^7}\right)^6 \quad \text{ז.}$
--	--	--

11 חשב ללא מחשבון את הביטויים הבאים :

$\left(\frac{7^3 \cdot 16 \cdot 128 \cdot 49}{(2^27)^5}\right)^3 \quad \text{ג.}$	$\left(\frac{(5^4)^2 3^6}{3^5 5^7}\right)^2 \quad \text{ב.}$	$\left(\frac{3^9 2^6 2^2}{3^6 2^5 3^2}\right)^2 \quad \text{א.}$
---	--	--

12 בטא את הביטויים הבאים מחדש בעזרת שימוש בחזקה שלילית :

$\frac{1}{2^{10}} \quad \text{ג.}$ $\frac{1}{125} \quad \text{ו.}$	$\frac{1}{5^3} \quad \text{ב.}$ $\frac{1}{81} \quad \text{ה.}$	$\frac{1}{4^6} \quad \text{א.}$ $\frac{1}{8} \quad \text{ד.}$
--	--	---

13 בטא את הביטויים הבאים מחדש בעזרת שימוש בחזקה חיובית וחשב את ערכם :

$\frac{1}{5^{-3}} \quad \text{ג.}$	$\frac{1}{3^{-2}} \quad \text{ב.}$	$\frac{1}{4^{-3}} \quad \text{א.}$
------------------------------------	------------------------------------	------------------------------------

14) חשב את הביטויים הבאים :

ג.  $5^6 \cdot 5^{-3} \cdot 5^{-2}$

ב.  $2^{-8} \cdot 512 \cdot 2^2$

א.  $3^2 \cdot 3^{-5} \cdot 3^7$

ו.  $\frac{3^{-6} \cdot 7^7 \cdot 7^{-4}}{3^{-4} \cdot 3^{-3} \cdot 7^3}$

ה.  $\frac{2^{-5} \cdot 5^3 \cdot 2^{14}}{5^2 \cdot 5^{-10} \cdot 5^8 \cdot 2^6}$

ד.  $2^{14} \cdot 3^{-6} \cdot 2^{16} \cdot 3^4 \cdot 2^{-30}$

15) פשט את הביטויים הבאים לצורה ללא חזקות שליליות.

ג.  $\frac{2^{-3}5^4}{5^4 \cdot 125 \cdot (5^22)^{-3} \cdot 2^{-4}}$

ב.  $\frac{(4^4)^{-4} 3^{-11}}{(3^{-2}4^3)^{-6}}$

א.  $\left(\frac{5^{-4}}{3^2}\right)^{-6}$

16) פשט את הביטויים הבאים :

ג.  $\frac{(m^{n+2})^3 \cdot m^{-4n-2}}{\frac{1}{m^{6n+2}} \cdot (m^3)^{n-2}}$

ב.  $\frac{(k^2)^{m+2} \cdot k^{1-3m}}{(k^{2m})^3 \cdot \frac{1}{k^{7m-4}}}$

א.  $\frac{a^{n+2} \cdot a^{2-3n}}{(a^3)^{n+1}}$

## תשובות סופיות:

- (1) א.  $a^8$     ב.  $t^{15}$     ג.  $b^{22}$     ד.  $k^5$     ה.  $n^5$     ו.  $c^4$
- ז.  $a^7$     ח.  $x^3$     ט. 1    י.  $3^9$     יא.  $2^8$     יב.  $5^5$
- (2) א. 18    ב.  $ab$     ג.  $x^6 y^{10}$
- (3)  $n=16$
- (4) א. 2    ב.  $\frac{1}{3}$     ג.  $\frac{5}{8}$     ד. 40
- (5) א.  $a^8$     ב.  $c^{30}$     ג.  $x^{26}$     ד.  $b$     ה.  $n^3$     ו.  $d^{10}$
- ז. 2    ח. 9    ט.  $8^{18}$     י.  $3^7$     יא. 3    יב.  $3^5$
- (6)  $n=2$
- (7) א. 6    ב. 9    ג. 56
- (8) א.  $3^{12}$     ב.  $2^{21}$     ג.  $5^{10}$     ד.  $2^{12}$     ה.  $2^7$     ו.  $3^{51}$
- (9) א.  $\frac{2b^3}{a}$     ב.  $k$     ג.  $3\frac{1}{5}$     ד.  $\frac{1}{x} + x$
- (10) א.  $a^6 b^3$     ב.  $m^{20} n^{15}$     ג.  $x^{36} y^9$     ד.  $\frac{a^{12}}{b^8}$     ה.  $\frac{i^{28}}{k^{21}}$     ו.  $a^{21} b^3$
- ז.  $x^{12} y^{18}$     ח.  $t^4 r^{12}$     ט.  $b^2 c^6$
- (11) א. 576    ב. 225    ג. 8
- (12) א.  $4^{-6}$     ב.  $5^{-3}$     ג.  $2^{-10}$     ד.  $2^{-3}$     ה.  $3^{-4}$     ו.  $5^{-3}$
- (13) א. 64    ב. 9    ג. 125
- (14) א. 81    ב. 8    ג. 5    ד.  $\frac{1}{9}$     ה. 1000    ו. 3
- (15) א.  $5^{24} \cdot 3^{12}$     ב.  $\frac{4^2}{3^{23}}$     ג.  $5^3 \cdot 2^4$
- (16) א.  $a^{1-5n}$     ב.  $k$     ג.  $m^{2n+12}$

## חוקי השורשים:

סיכום כללי:

סיכום חוקי השורשים:

$$\begin{array}{lll}
 \sqrt[n]{a^n} = a^{\frac{n}{n}} & .3 & \sqrt[n]{a} = a^{\frac{1}{n}} & .2 & \sqrt{a} = a^{\frac{1}{2}} & .1 \\
 \sqrt[n]{\sqrt[m]{a}} = \sqrt[m \cdot n]{a} & .6 & \frac{\sqrt[m]{a}}{\sqrt[m]{b}} = \sqrt[m]{\frac{a}{b}} & .5 & \sqrt[n]{a} \cdot \sqrt[n]{b} = \sqrt[n]{a \cdot b} & .4
 \end{array}$$

שאלות:

17) הבא את הביטויים הבאים לצורה:  $\sqrt[n]{a^m}$ .

$$\begin{array}{lll}
 \text{א. } 3^{\frac{1}{4}} & \text{ב. } 2^{\frac{3}{5}} & \text{ג. } 6^{\frac{5}{6}} \\
 \text{ד. } -12^{\frac{2}{7}} & \text{ה. } -(-4)^{\frac{1}{3}} & \text{ו. } -(-3)^{\frac{3}{4}} \\
 \text{ז. } 5^{-\frac{1}{4}} & \text{ח. } 27^{-\frac{1}{3}} & \text{ט. } 64^{-\frac{5}{6}}
 \end{array}$$

18) חשב ללא מחשבון את ערכם של הביטויים הבאים:

$$\begin{array}{lll}
 \text{א. } \sqrt{49} & \text{ב. } -\sqrt{25} & \text{ג. } \sqrt[3]{8} \\
 \text{ד. } -\sqrt[3]{128} & \text{ה. } \sqrt[3]{(-2)^6} & \text{ו. } (\sqrt[5]{1024})^2 \\
 \text{ז. } (\sqrt[5]{-243})^3 & \text{ח. } \sqrt[4]{-16} & \text{ט. } \sqrt[4]{-25^2} \\
 \text{י. } \sqrt[4]{(-25)^2} & &
 \end{array}$$

19) חשב ללא מחשבון את ערכם של הביטויים הבאים :

ג.  $128^{\frac{2}{7}}$

ב.  $32^{\frac{3}{5}}$

א.  $8^{\frac{2}{3}}$

ו.  $\left(\frac{64}{343}\right)^{\frac{2}{3}}$

ה.  $\left(2\frac{1}{4}\right)^{-2.5}$

ד.  $\left(\frac{1}{25}\right)^{-1.5}$

ט.  $16^{\frac{1}{4}} \cdot 8^{\frac{1}{3}} \cdot 4^{\frac{1}{2}}$

ח.  $343^{\frac{2}{3}} \cdot 100^{\frac{1}{2}}$

ז.  $81^{\frac{3}{4}} \cdot 64^{\frac{1}{3}}$

20) חשב ללא מחשבון את ערך הביטוי הבא :  $\frac{\sqrt[5]{2^2} \cdot \sqrt{8}}{\sqrt[3]{128}}$

21) פשט את הביטויים הבאים :

ג.  $\sqrt{4} \cdot \sqrt{5} \cdot \sqrt{20}$

ב.  $\sqrt{3} \cdot \sqrt{27}$

א.  $\sqrt{2} \cdot \sqrt{8}$

ו.  $\frac{\sqrt[5]{96}}{\sqrt[5]{3}}$

ה.  $\frac{\sqrt[3]{81}}{\sqrt[3]{3}}$

ד.  $\frac{\sqrt{72}}{\sqrt{2}}$

ט.  $\frac{\sqrt[3]{8^2} \sqrt[4]{25}}{\sqrt[4]{400} \sqrt{2}}$

ח.  $\frac{\sqrt[3]{500} \cdot \sqrt{5}}{\sqrt[4]{25^2} \cdot \sqrt[3]{4}}$

ז.  $\frac{\sqrt[5]{2^2} \cdot \sqrt{8}}{\sqrt[5]{128}}$

22) הכנס לתוך שורש את המספרים החופשיים :

ג.  $\frac{\sqrt{36}}{2}$

ב.  $5\sqrt{3}$

א.  $3\sqrt{2}$

ה.  $x\sqrt{x}$

ד.  $2\sqrt[3]{3}$

23) הכנס את כל המקדמים בביטויים הבאים לתוך השורש :

ג.  $2\sqrt[5]{3}$

ב.  $4\sqrt[3]{2}$

א.  $2\sqrt{5}$

ו.  $\frac{3\sqrt[4]{5000}}{10}$

ה.  $\frac{\sqrt[3]{24}}{2}$

ד.  $\frac{\sqrt{24}}{2}$

ט.  $-5\sqrt{-2}$

ח.  $-5\sqrt[4]{2}$

ז.  $-5\sqrt[3]{2}$

24) הוצא מהשורש את הכופל הגדול ביותר:

- א.  $\sqrt{12}$       ב.  $\sqrt{48}$       ג.  $\sqrt{63}$
- ד.  $\sqrt[3]{54}$       ה.  $\sqrt{x^5}$

25) חלץ מן הביטויים הבאים את המקדם הגבוה ביותר ככל הניתן:

- א.  $\sqrt{40}$       ב.  $\sqrt{50}$       ג.  $\sqrt{320}$
- ד.  $\sqrt[3]{108}$       ה.  $\sqrt[3]{56}$       ו.  $\sqrt[3]{160}$
- ז.  $\sqrt[4]{162}$       ח.  $\sqrt[5]{972}$       ט.  $\sqrt[9]{192}$

26) פשט את הביטויים הבאים:

- א.  $\sqrt{18} - \sqrt{8}$       ב.  $\sqrt{7} + \sqrt{63}$       ג.  $\sqrt[3]{16} + \sqrt[3]{128}$
- ד.  $\sqrt[4]{405} - \sqrt[4]{80}$       ה.  $\frac{20}{\sqrt{5}}$       ו.  $\frac{\sqrt{8}}{2}$
- ז.  $\frac{16}{\sqrt{2}}$       ח.  $\frac{6}{\sqrt{3} + \sqrt{12}}$       ט.  $\frac{10}{\sqrt[5]{160} - \sqrt[5]{5}}$

27) פשט את הביטויים הבאים:

- א.  $3^{\frac{1}{4}} \cdot 9^{-2.5} \cdot 27^{\frac{3}{2}}$       ב.  $2^{\frac{3}{4}} \cdot 16^{\frac{1}{2}} \cdot 64^{-3}$       ג.  $125^{\frac{1}{6}} \cdot 5^2 \cdot 5^{-\frac{2}{3}}$
- ד.  $\frac{27^{\frac{4}{3}} \cdot 3^{-\frac{2}{3}}}{9^{\frac{1}{6}}}$       ה.  $\frac{49^{\frac{2}{5}} \cdot 7^{-\frac{6}{5}}}{343^{\frac{1}{5}}}$       ו.  $\frac{512^{\frac{1}{4}} \cdot 64^{\frac{3}{4}}}{128^{\frac{1}{8}} \cdot 2^{-2}}$

## תשובות סופיות:

- (17) א.  $\sqrt[4]{3}$     ב.  $\sqrt[5]{2^3}$     ג.  $\sqrt[6]{6^5}$     ד.  $-\sqrt[7]{12^2}$     ה.  $-\sqrt[3]{-4}$     ו.  $\phi$
- ז.  $\frac{1}{\sqrt[4]{5}}$     ח.  $\frac{1}{\sqrt[3]{27}}$  או  $\frac{1}{3}$     ט.  $\frac{1}{\sqrt[6]{64^5}}$  או  $\frac{1}{2^5}$
- (18) א. 7    ב. -5    ג. 2    ד. -2    ה. 4    ו. 16
- ז. -27    ח.  $\phi$     ט.  $\phi$     י. 5
- (19) א. 4    ב.  $\frac{1}{8}$     ג.  $\frac{1}{4}$     ד. 125    ה.  $\frac{32}{243}$     ו.  $\frac{49}{16}$
- ז.  $\frac{27}{4}$     ח.  $\frac{10}{49}$     ט.  $\frac{1}{2}$
- (20)  $\sqrt{2}$
- (21) א. 4    ב. 9    ג. 20    ד. 6    ה. 3    ו. 2
- ז.  $\sqrt{2}$     ח.  $\sqrt{5}$     ט.  $\sqrt{2}$
- (22) א.  $\sqrt{18}$     ב.  $\sqrt{75}$     ג.  $\sqrt{9}$     ד.  $\sqrt[3]{24}$     ה.  $\sqrt{x^3}$
- (23) א.  $\sqrt{20}$     ב.  $\sqrt[3]{128}$     ג.  $\sqrt[5]{96}$     ד.  $\sqrt{6}$     ה.  $\sqrt[3]{3}$
- ו.  $\sqrt[4]{40\frac{1}{2}}$     ז.  $\sqrt[3]{-250}$     ח.  $-\sqrt[4]{1250}$     ט.  $\sqrt[5]{5^5 \cdot 2}$
- (24) א.  $2\sqrt{3}$     ב.  $4\sqrt{3}$     ג.  $3\sqrt{7}$     ד.  $3\sqrt[3]{2}$     ה.  $x^2\sqrt{x}$
- (25) א.  $2\sqrt{10}$     ב.  $5\sqrt{2}$     ג.  $8\sqrt{5}$     ד.  $3\sqrt[3]{4}$     ה.  $2\sqrt[3]{7}$     ו.  $2\sqrt[5]{5}$
- ז.  $3\sqrt[4]{2}$     ח.  $3\sqrt[5]{4}$     ט.  $2\sqrt[6]{3}$
- (26) א.  $\sqrt{2}$     ב.  $4\sqrt{7}$     ג.  $6\sqrt[3]{2}$     ד.  $\sqrt[4]{5}$     ה.  $4\sqrt{5}$     ו.  $\sqrt{2}$
- ז.  $8\sqrt{2}$     ח.  $\frac{2}{\sqrt{3}}$  או  $\frac{2\sqrt{3}}{3}$     ט.  $\frac{10}{\sqrt[3]{5}}$  או  $2\sqrt[5]{5^4}$
- (27) א.  $\frac{1}{\sqrt[4]{3}}$     ב.  $\frac{1}{\sqrt[4]{2^{61}}}$     ג.  $\sqrt[6]{5^{11}}$     ד. 27    ה.  $\frac{1}{7}$     ו.  $\sqrt[8]{2^5}$

## כתיבה מדעית של מספרים:

### שאלות:

28) בטא את המספרים הבאים בכתיב מדעי:

א. 15,000,000	ב. 1,500,000
ג. 150,000,000,000	ד. 23,400,000
ה. 0.0003	ו. 0.00000042
ז. 0.000000042	ח. 0.00000000042

29) בטא את המספרים הבאים בכתיב מדעי:

א. $(3,000,000)^2$	ב. $(2,000,000)^2$
ג. $(5,000)^3$	ד. $(50,000)^3$
ה. $(0.0002)^4$	ו. $(0.00004)^3$
ז. $(0.000005)^3$	ח. $(0.000000007)^3$

### תשובות סופיות:

28) א. $1.5 \cdot 10^7$	ב. $1.5 \cdot 10^6$	ג. $1.5 \cdot 10^{11}$	ד. $2.34 \cdot 10^7$	ה. $3 \cdot 10^{-4}$
ו. $4.2 \cdot 10^{-7}$	ז. $4.2 \cdot 10^{-8}$	ח. $4.2 \cdot 10^{-10}$		
29) א. $9 \cdot 10^{12}$	ב. $4 \cdot 10^{12}$	ג. $1.25 \cdot 10^{11}$	ד. $1.25 \cdot 10^{14}$	ה. $1.6 \cdot 10^{-15}$
ו. $6.4 \cdot 10^{-14}$	ז. $1.25 \cdot 10^{-16}$	ח. $3.43 \cdot 10^{-25}$		

# קורס מתמטיקה להנדסאי טכנולוגיות מים

פרק 8 - משוואות ואי-שוויונים מעריכיים

תוכן העניינים

123	1. משוואות מעריכיות יסודיות.....
125	2. משוואות עם חיבור וחסור איברים.....
127	3. משוואות בהן המשתנה גם בבסיס.....
128	4. משוואות מסכמות שונות.....
129	5. משוואות עם קבוע אוילר.....
130	6. מערכת משוואות מעריכיות.....
131	7. אי שוויונים מעריכיים.....
132	8. אי-שוויונים עם משתנה בבסיס ובמעריך.....

## משוואות מעריכיות יסודיות:

### סיכום כללי:

- פתרון כללי של משוואת מעריכית מהצורה:  $a^x = a^y$  הוא:  $x = y$ .
- פתרון של משוואה מהצורה:  $a^x = 1$  הוא:  $x = 0$  שכן:  $a^x = 1 = a^0$ .
- פתרון של משוואה מהצורה:  $a^x = b^x$  הוא:  $x = 0$  שכן:  $a^x = b^x = 1$  ללא תלות בבסיסים.

### שאלות:

(1) פתור את המשוואות הבאות (שימוש בחוקי החזקות היסודיים):

א.  $2^x = 16$       ב.  $5^x \cdot 25^{x+2} = 125$

ג.  $10^{x-2} = 10000^{x+1}$       ד.  $9^x \cdot 3^{x^2} = 81^{3x-4}$

ה.  $(2^x \cdot 32)^3 = 8$       ו.  $(5^{x^2})^5 \cdot \frac{1}{5^5} = 625^{x-1}$

ז.  $\frac{7^x}{343^3} = 1$       ח.  $(25 \cdot 0.2^{2x})^2 = \left(\frac{1}{125}\right)^{1-x}$

(2) פתור את המשוואות הבאות (הבסיס הוא שבר):

א.  $27 \cdot \left(\frac{3}{2}\right)^{5x+2} = 8$       ב.  $\left(\frac{3}{4}\right)^{2-x} \cdot \left(\frac{4}{3}\right)^{3x} = \left(\frac{9}{16}\right)^{7+x}$

ג.  $25 \left(\frac{7}{5}\right)^{x^2-2x} \cdot \left(\frac{5}{7}\right)^{4-x} = 49$

(3) פתור את המשוואות הבאות (שימוש בחוקי השורשים):

א.  $\sqrt{27} \cdot \left(\frac{1}{3}\right)^{2x} = 9\sqrt{3}$       ב.  $\sqrt{3^{x+7}} = 81$

ג.  $(9\sqrt{27})^{3x} \cdot 3^{2-x} = \frac{1}{9}$       ד.  $\sqrt[3]{16} \cdot \left(\frac{1}{2^x}\right)^3 = \frac{1}{16}$

ה.  $2^{\sqrt{x}} \cdot \frac{1}{\sqrt{2^x}} = 8(\sqrt{8})^{-\sqrt{x}}$       ו.  $5^x \cdot \frac{1}{25^5} = 125^{\sqrt{x}}$

4) פתור את המשוואות הבאות (מכפלת בסיסים שונים):

א. $2^x = 7^x$	ב. $3^x \cdot \frac{625}{\sqrt{25^x}} = 81$
ג. $2^{3x} \cdot 5^{3x} = 1000000$	ד. $2^{x+1} \cdot 3^{x-2} \cdot 7^x = 392$
ה. $243 \cdot 2^{x-1} \cdot 18^{x-9} = \frac{1}{3^{x-2}}$	ו. $108 \cdot \frac{1}{2^{1-2x}} = 72^x \cdot \sqrt{0.5}$
ז. $2^{2x+2} \cdot 5^{x+1} = (2\sqrt{5})^{4-x}$	

### תשובות סופיות:

א. $x = 4$	ב. $x = -\frac{1}{3}$	ג. $x = -2$	ד. $x = 2, 8$	ה. $x = -4$
ו. $x = 1, -\frac{1}{5}$	ז. $x = 9$	ח. $x = 1$		
א. $x = -1$	ב. $x = -2$	ג. $x = 3, -2$		
א. $x = -\frac{1}{2}$	ב. $x = 1$	ג. $x = -\frac{8}{19}$	ד. $x = 2, -\frac{2}{3}$	ו. $x = 25$
א. $x = 0$	ב. $x = 4$	ג. $x = 2$	ד. $x = 2$	ה. $x = 5$
ו. $x = 1.5$	ז. $x = \frac{2}{3}$			

## משוואות עם חיבור וחסור איברים:

### סיכום כללי:

במשוואות הכוללות חיבור וחסור של איברים, נאתר את הבסיס עם המעריך הקטן ביותר ונסמן אותו ב- $t$ , למשל במשוואה:  $4^x - 3 \cdot 2^x = 4$  נסמן:  $2^x = t$ .  
 נבטא את כל איברים המשוואה באמצעות  $t$  ונפתור אותה עבורו.  
 לאחר מכן נחזיר את ההצבה למציאת ערכי ה- $x$  המתאימים.

### שאלות:

(1) פתור את המשוואות הבאות (משוואות יסודיות עם חיבור וחסור ממעלה ראשונה):

ב.  $8^x + 3 \cdot 8^x = 256$

א.  $2^x + 6 \cdot 2^x = 56$

ד.  $2 \cdot 6^x + 6^{x+2} - 6^{x-1} = 227$

ג.  $5 \cdot 3^x - 3^{x+1} = 162$

(2) פתור את המשוואות הבאות (משוואות כלליות עם חיבור וחסור ממעלה ראשונה):

ב.  $5^{3x+2} + 4 \cdot 125^x = 29$

א.  $81^{x+1} + 18 \cdot 3^{4x-3} = 735$

ד.  $\sqrt{10000^{x+1}} - \sqrt[4]{10^{8x+1}} = \sqrt[4]{1000} \cdot (\sqrt[4]{10^7} - 1)$

ג.  $(2^{3x+1})^2 - 64^{x-\frac{1}{3}} = 15$

ו.  $5^{-x} + 25^{\frac{1-x}{2}} - 5^{-x-1} = 145$

ה.  $6^{-x} - 5 \cdot 36^{-\left(\frac{x+1}{2}\right)} = 186$

ח.  $4^{x+2} - 6 \cdot 4^x = 7 \cdot 12^{x+1} + 6 \cdot 12^x$

ז.  $2 \cdot 10^{x+1} + 10^{x+2} = 3 \cdot 5^{x+1}$

(3) פתור את המשוואות הבאות (משוואות עם חיבור וחסור ממעלה שנייה):

ב.  $16^{x+1} - 65 \cdot 4^x + 4 = 0$

א.  $9^x - 36 \cdot 3^x + 243 = 0$

ד.  $4^{-x} - 3 \cdot 4^x + 2 = 0$

ג.  $6^x - 4 \cdot 6^{-x} + 3 = 0$

ו.  $\left(2^{\frac{1}{3}x+2}\right)^2 - 5 \cdot 2^{\frac{1}{3}x+1} + 1 = 0$

ה.  $\left(\frac{4}{9}\right)^x - \frac{5}{2} \cdot \left(\frac{3}{2}\right)^{-x-1} = -\frac{2}{3}$

(4) פתור את המשוואות הבאות (משוואות כלליות):

ב.  $\frac{7^x}{7^x-4} + \frac{8}{7^x+5} = 3$

א.  $\frac{20}{9^x+1} = 3 - \frac{8}{9^x-1}$

5) פתור את המשוואות הבאות (משוואות מסכמות):

א. $\frac{1}{25^{1-x}} - 6 \cdot 5^{x-1.5} + 1 = 0$	ב. $3^x - \sqrt{16 \cdot 3^{x+1}} = -9$
ג. $36^x - 6^{x+1} \cdot 3^x + 8 \cdot 9^x = 0$	ד. $4 \cdot 9^x - 10 \cdot 6^x + 6 \cdot 4^x = 0$
ה. $25 \cdot 5^{2x} + 16 \cdot 15^x = 9^{x+1}$	ו. $9^x + 4^x - 6^x = \frac{7}{6^{1-x}}$
ז. $\frac{8^{2x} - 8}{7} = 4^x - 2$	ח. $2^{3x} - 2^{2x+2} - 2^x + 4 = 0$

### תשובות סופיות:

א. $x=3$	ב. $x=2$	ג. $x=4$	ד. $x=1$
א. $x=\frac{1}{2}$	ב. $x=0$	ג. $x=\frac{1}{3}$	ד. $x=\frac{1}{4}$
ה. $x=-3$	ו. $x=-2$	ז. $x=-3$	ח. $x=-2$
א. $x=2,3$	ב. $x=1,-2$	ג. $x=0$	ד. $x=0$
ה. $x=0,1$	ו. $x=-6,-9$		
א. $x=1, -\frac{1}{2}$	ב. $x=1$		
א. $x=\frac{1}{2}, 1\frac{1}{2}$	ב. $x=1,3$	ג. $x=1,2$	ד. $x=1,0$
ה. $x=-2$	ו. $x=1,-1$	ז. $x=0, \frac{1}{2}$	ח. $x=0,2$

## משוואות בהן המשתנה גם בבסיס:

### סיכום כללי:

במשוואות עם משתנה בבסיס יש לדרוש תנאי עבורו הבסיס חיובי. יש לקחת את חיתוך תחומי ההגדרה (במידה וקיימים ביטויים עם שורשים או שברים) יחד עם תוצאת השוואת המעריכים.

### הערה:

יש לבדוק את ערכי ה- $x$  עבורם הבסיס שווה ל-1 ולראות האם מתקבל פסוק אמת או פסוק שקר. בהתאם יש להוסיף או להוריד אותו מתחום המספרים המהווים את פתרון המשוואה.

### שאלות:

פתור את המשוואות הבאות:

$$(\sqrt{3-x})^{\sqrt{x}} = (\sqrt[3]{3-x})^x \cdot \sqrt{\sqrt[3]{3-x}} \quad (1)$$

$$\left(1 + \frac{1}{x}\right)^{x^2+x} = 1 \quad (2)$$

$$\frac{|x-3|^{x^2-2}}{|x-3|^{x-1}} = |x-3|^{-1} \quad (3)$$

### תשובות סופיות:

$$x = \frac{1}{4}, 1, 2 \quad (1)$$

(2) אין פתרון.

$$x = 0, 1, 2, 4 \quad (3)$$

## משוואות מסכמות שונות:

### שאלות:

פתור את המשוואות הבאות:

$$.5(2^x - 2) + 2 = 4^x - 2^x \quad (1)$$

$$\cdot \frac{6}{4^{x-1} - 1} + \frac{2^{x+1}}{2^x + 2} = \frac{2^x + 4}{2^x - 2} \quad (2)$$

$$\cdot \frac{4^x}{4^x - 10} - \frac{4}{2^{2x-1} - 3} = \frac{32}{16^x - 4^{x+2} + 60} \quad (3)$$

$$\cdot 3^{2x^2+2} - 3^{x^2+3} + 9 = 3^{x^2+1} \quad (4)$$

$$\cdot \sqrt{x}{10} = 4 \cdot \sqrt[2]{x}{10} + 60 \quad (5)$$

$$\cdot \sqrt[x-1]{8 \cdot 2^{x+1}} = (\sqrt{x}{2})^2 \cdot \sqrt[x-1]{x}{32} \quad (6)$$

$$\cdot 10 \cdot 4^{x+2} - 16 \cdot 10^x - 90 \cdot 6^x + 36 \cdot 15^x = 0 \quad (7)$$

### תשובות סופיות:

$$\cdot x = 1, 2 \quad (1)$$

$$\cdot x = 3 \quad (2)$$

$$\cdot x = 1.5 \quad (3)$$

$$\cdot x = 1, -1 \quad (4)$$

$$\cdot x = \frac{1}{2} \quad (5)$$

$$\cdot x = -3 \quad (6)$$

$$\cdot x = 1, -2 \quad (7)$$

## משוואות עם קבוע אוילר:

### סיכום כללי:

קבוע אוילר מסומן באות  $e$  וערכו שווה (בערך) ל-2.71828. למספר זה משמעויות רבות במתמטיקה ובמדעים ועל כן הוחלט לסמן אותו באות משלו ולשלב אותו במשוואות מתמטיות ועוד.

דרך הפתרון של משוואה שבה הבסיס הוא  $e$  זהה לחלוטין לשל משוואה מעריכית רגילה כפי שנלמד בפרק זה.

### שאלות:

(1) פתור את המשוואות הבאות (משוואות יסודיות עם קבוע אוילר):

$$\text{א. } e^{3x} = e^{2x-1} \quad \text{ב. } e^{5x-1} = e \cdot e^{6x+1}$$

$$\text{ג. } e^{x-5} = (e^{1-x})^3 \quad \text{ד. } e^x \cdot \sqrt{e^{3x-1}} = \left(\frac{1}{e^x}\right)^{1-3x}$$

(2) פתור את המשוואות הבאות (משוואות עם חיבור וחיסור):

$$\text{א. } e^2 \cdot e^x - e^{x+1} = e - 1 \quad \text{ב. } \sqrt[3]{e^{x+1}} \cdot e^2 = e^x \sqrt{e}$$

$$\text{ג. } e^{2x} + e^x - 2 = 0 \quad \text{ד. } e^{1+x} + e^{1-x} = e^2 + 1$$

(3) פתור את המשוואות הבאות (המשתנה גם בבסיס):

$$\text{א. } xe^x = \sqrt[4]{e} \cdot x \quad \text{ב. } e^{3x} = x \cdot e^{3x}$$

$$\text{ג. } xe^{x^2} = \frac{x}{\sqrt{e^x}} \quad \text{ד. } \sqrt[3]{e^{3x-1}} \cdot x = xe^x$$

### תשובות סופיות:

$$(1) \quad \text{א. } x = -1 \quad \text{ב. } x = -3 \quad \text{ג. } x = 2 \quad \text{ד. } x = 1, \frac{1}{6}$$

$$(2) \quad \text{א. } x = -1 \quad \text{ב. } x = \frac{11}{4} \quad \text{ג. } x = 0 \quad \text{ד. } x = 1, -1$$

$$(3) \quad \text{א. } x = 0, \frac{1}{4} \quad \text{ב. } x = 1 \quad \text{ג. } x = 0, -\frac{1}{2} \quad \text{ד. } x = 0$$

## מערכת משוואות מעריכיות:

שאלות:

$$(1) \quad \begin{cases} y = 3^x \\ y = 18 - 3^x \end{cases} \quad \text{פתור את מערכת המשוואות הבאה:}$$

$$(2) \quad \begin{cases} 5^{2x} - 5^y = 5^x - 25 \\ y - x = 2 \end{cases} \quad \text{פתור את מערכת המשוואות הבאה:}$$

$$(3) \quad \begin{cases} \frac{1}{3^y - 4} + \frac{3}{3^x - 2} - \frac{1}{3^x + 2} = 3 \\ 4^y = \sqrt{256^x} \end{cases} \quad \text{פתור את מערכת המשוואות הבאה:}$$

$$(4) \quad \begin{cases} 5^x + 2^y = 13 \\ 2 \cdot 5^x - 2^y = 2 \end{cases} \quad \text{פתור את מערכת המשוואות הבאה:}$$

$$(5) \quad \begin{cases} 2 \cdot 3^x - 3 \cdot 2^y = 42 \\ 3^{x+1} - 2^{y+1} = 73 \end{cases} \quad \text{פתור את מערכת המשוואות הבאה:}$$

$$(6) \quad \begin{cases} 5^{2x+1} + 8 \cdot 10^x - 2^{2y+4} = 0 \\ (\sqrt{3})^y = 27^{\frac{x-1}{6}} \end{cases} \quad \text{פתור את מערכת המשוואות הבאה:}$$

$$(7) \quad \begin{cases} 6 \cdot 4^x - 7 \cdot 6^{y-1} + 2 \cdot 3^{x+y} = 6^y \\ \sqrt[4]{5^x} \cdot \sqrt{(5\sqrt{5})^y} = \sqrt[4]{125} \cdot 5^x \end{cases} \quad \text{פתור את מערכת המשוואות הבאה:}$$

תשובות סופיות:

(1,3) <b>(4)</b>	(1,2) <b>(3)</b>	(0,2), (2,4) <b>(2)</b>	(2,9) <b>(1)</b>
(1,2), (-1,0) <b>(7)</b>	(-1,-2) <b>(6)</b>	(3,2) <b>(5)</b>	

## אי שוויונים מעריכיים:

### סיכום כללי:

פתרון אי-השוויון:  $a^x > a^y$  הוא:  $x > y$  עבור:  $a > 1$  ו-  $x < y$  עבור:  $0 < a < 1$ .

### שאלות:

פתור את אי השוויונים הבאים:

$$\sqrt{2^x} \leq 4^{x^2-1\frac{1}{4}} \quad (2)$$

$$3^{2x+1} < 27^{1-\frac{1}{3}x} \quad (1)$$

$$\left(\frac{1}{7}\right)^{5x} \geq \left(\frac{1}{7}\right)^{1-3x} \quad (4)$$

$$e^{\sqrt{x+1}} > e^{2x} \quad (3)$$

$$e^{2x} - 2e^x + 1 \leq 0 \quad (6)$$

$$25^x + 5 < 6 \cdot 5^x \quad (5)$$

### הערה:

השאלות הבאות דורשות הכרות עם מושג הלוגריתם הטבעי ( $\ln$ ) וכן חוקי הלוגריתמים אשר ילמדו בהמשך.

$$e^{2x} - 5e^x + 4 > 0 \quad (8)$$

$$e^x > 3 \quad (7)$$

### תשובות סופיות:

$$x \leq -1 \text{ או } x \geq 1\frac{1}{4} \quad (2)$$

$$x < \frac{2}{3} \quad (1)$$

$$x \leq \frac{1}{8} \quad (4)$$

$$0 \leq x < 1 \quad (3)$$

$$x = 0 \quad (6)$$

$$0 < x < 1 \quad (5)$$

$$x < 0 \text{ או } x > \ln 4 \quad (8)$$

$$x > \ln 3 \quad (7)$$

## אי-שוויונים עם משתנה בבסיס ובמעריך:

### סיכום כללי:

דרך הפתרון של אי שוויון עם משתנה בבסיס ובמעריך:

- יש לדרוש בסיס חיובי ולחבר אי-שוויון בהתאם.
- יש לפתור את אי השוויון לפי השוואת מעריכים.
- יש למצוא את חיתוך הפתרונות.

נתון:  $f(x)^{g(x)} > f(x)^{h(x)}$  נדרוש:  $f(x) > 0$ .

דרך הפתרון: אם  $f(x) > 1$  אז  $g(x) > h(x)$ .

אם  $0 < f(x) < 1$  אז  $g(x) < h(x)$ .

לבסוף נמצא את חיתוך התחומים.

### שאלות:

פתור את אי השוויונים הבאים:

$$(x-2)^{2x-5} < (x-2)^{x+1} \quad (2) \qquad x^{2x-1} > x^{x+2} \quad (1)$$

$$x^{2x^2+2} < x^{5x} \quad (4) \qquad x^{2x-6} < 1 \quad (3)$$

$$(x+1)^{|x|} < x^2 + 2x + 1 \quad (6) \qquad (x^2 - 6x + 13)^{x^2 - 2x} \geq (x^2 - 6x + 13)^3 \quad (5)$$

### תשובות סופיות:

$$.0 < x < 1, x > 3 \quad (1)$$

$$.3 < x < 6 \quad (2)$$

$$.1 < x < 3 \quad (3)$$

$$.0 < x < 0.5, 1 < x < 2 \quad (4)$$

$$.x \leq -1, x \geq 3 \quad (5)$$

$$.0 < x < 2 \quad (6)$$

# קורס מתמטיקה להנדסאי טכנולוגיות מים

פרק 9 - חוקי הלוגריתמים, משוואות ואי-שוויונים לוגריתמים

תוכן העניינים

133	1. הגדרת הלוגריתם ומשוואות יסודיות
136	2. חוקי הלוגריתמים
140	3. חישובים עם חזקה לוגריתמית
141	4. מעבר בין בסיסים
143	5. הלוגריתם הטבעי
145	6. משוואות עם בסיסים שונים
146	7. מערכת משוואות לוגריתמיות
147	8. מערכת משוואות לוגריתמיות ומעריכיות
148	9. אי-שוויונים לוגריתמים

## הגדרת הלוגריתם ומשוואות יסודיות:

### סיכום כללי:

#### הגדרה:

הלוגריתם מוגדר באופן הבא:  $\log_a b = x \Leftrightarrow a^x = b$  כאשר:  $a, b > 0, a \neq 1$ .

#### הסבר:

לוגריתם על בסיס  $a$  של  $b$  מוגדר בתור החזקה שיש להעלות את  $a$  על מנת שיהיה שווה ל- $b$ .  
 ערך חזקה זו הוא  $x$ . ערך לוגריתם יכול להיות חיובי, שלילי או אפס. נחשב ערכי לוגריתמים  
 ונפתור משוואות לוגריתמיות ע"י מעבר לפי ההגדרה למשוואה מעריכית מתאימה.

### כללים יסודיים בלוגריתמים:

מהגדרת הלוגריתם נובע כי:  $\log_a a = 1$  וכן:  $\log_a 1 = 0$  לכל  $a > 0, a \neq 1$ .

### שאלות:

(1) חשב ללא מחשבון את ערכי הביטויים הלוגריתמים הבאים:

א.  $\log_2 32$       ב.  $\log 1000$       ג.  $\log_{25} 5$

ד.  $\log_8 4$       ה.  $\log_4 \frac{1}{16}$       ו.  $\log_a a^4$

ז.  $\log_a \frac{1}{a\sqrt{a}}$

(2) פתור את המשוואות הלוגריתמיות הבאות (יסודי - שימוש בהגדרת הלוג):

א.  $\log_{36} 6 = x$       ב.  $\log_2 x = 16$

ג.  $\log_{\frac{1}{9}} x = -1.5$       ד.  $\log_x 64 = 3$

ה.  $\log_x 25 = 2$       ו.  $\log_x (3x+4) = 2$

3) פתור את המשוואות הלוגריתמיות הבאות (כללי - שימוש בהגדרת הלוג):

$$\text{א. } \log_6(4x-2)=1 \quad \text{ב. } \log_4(4-x)=\frac{1}{2}$$

$$\text{ג. } \log_8(x^4-73)=1 \quad \text{ד. } \log_3 \frac{x+3}{3-3x} = -2$$

$$\text{ה. } \log_x(2x^2+x-12)=2 \quad \text{ו. } \log_{\sqrt{x+1}}(2x^2-5)=2$$

4) פתור את המשוואות הלוגריתמיות הבאות (שימוש בהגדרת הלוג מספר פעמים):

$$\text{א. } \log_4(\log_3 x)=1 \quad \text{ב. } 3\log_{27}(\log_2(x+3))=1$$

$$\text{ג. } \log_{\frac{1}{16}}(\log_3(5x^2+1))=-\frac{1}{2} \quad \text{ד. } \log_6(3+\log_2(6+\log_4(x^2+15)))=1$$

5) פתור את המשוואות הלוגריתמיות הבאות (מתקבלת משוואה מעריכית):

$$\text{א. } \log_2(3^x+37)=6 \quad \text{ב. } \log_3(3 \cdot 2^x - 303)=4$$

$$\text{ג. } \log_5(126 \cdot 5^x - 25)=2x+1 \quad \text{ד. } 3\log_2\left(3 \cdot 4^{1+\frac{1}{3}x} - 11 \cdot 2^{\frac{x}{3}} + 3\right)=12+2x$$

6) פתור את המשוואות הלוגריתמיות הבאות (הצבה):

$$\text{א. } (\log_2 x)^4 = 10000 \quad \text{ב. } 2(\log_3 x)^2 + \log_3 x = 10$$

$$\text{ג. } \frac{3 \cdot \log_{14} x + 1}{(\log_{14} x)^2} = 4 \quad \text{ד. } \sqrt{\log_{\frac{1}{81}} x} + \sqrt{\log_{\frac{1}{81}} x + 2} = 2$$

## תשובות סופיות:

- (1) א. 5    ב. 3    ג.  $\frac{1}{2}$     ד.  $\frac{2}{3}$     ה. -2
- ו. -1.5    ז. 4
- (2) א.  $x = \frac{1}{2}$     ב.  $x = 65,536$     ג.  $x = 27$     ד.  $x = 4$
- ה.  $x = 5$     ו.  $x = 4$
- (3) א.  $x = 2$     ב.  $x = 2$     ג.  $x = \pm 3$     ד.  $x = -2$     ה.  $x = 3$     ו.  $x = 2$
- (4) א.  $x = 81$     ב.  $x = 5$     ג.  $x = \pm 4$     ד.  $x = \pm 1$
- (5) א.  $x = 3$     ב.  $x = 7$     ג.  $x = -1, 2$     ד.  $x = -6$
- (6) א.  $x = 1024, \frac{1}{1024}$     ב.  $x = 9, \frac{1}{9\sqrt{3}}$
- ג.  $x = 14, \frac{1}{\sqrt[4]{14}}$     ד.  $x = \frac{1}{3}$

## חוקי הלוגריתמים:

### סיכום כללי:

- להלן 3 חוקי הלוגריתמים עבור בסיס  $a > 0 \neq 1$  וארגומנטים  $x$  ו- $y$  חיוביים:
- מכפלה לסכום:  $\log_a(x \cdot y) = \log_a x + \log_a y$ .
  - מנה להפרש:  $\log_a\left(\frac{x}{y}\right) = \log_a x - \log_a y$ .
  - מקדם למעריך:  $\log_a b^n = n \log_a b$  (כאשר  $b > 0$  ו- $n$  מספר ממשי כלשהו).

### שאלות:

#### שאלות חישוב כלליות:

(1) חשב ללא מחשבון את ערכי הביטויים הבאים (שימוש בחוקי הלוגים):

- |  |   |
|--|---|
| א. $\log_3 12 + \log_3 2.25$   | ב. $\log_{\frac{1}{5}} 40 + \log_{\frac{1}{5}} 12.5 + \log_{\frac{1}{5}} \frac{1}{4}$ |
| ג. $\log_2 200 - \log_2 100$   | ד. $\log_3 60 - \log_3 540$   |
| ה. $\log_4 8 + \log_4 12 - \log_4 6$   | ו. $\log_7 1.5 - \log_7 147 + \log_7 2$   |
| ז. $3 \log_5 2 - \log_5 1.6$   | ח. $\log_{\sqrt{4}} 6.4 + 2 \log_{\sqrt{4}} \sqrt{10}$                                |
| ט. $\frac{1}{2} \left( \log_7 \frac{7}{2} + \log_7 2 \right) + \log_7 14 - \frac{1}{3} \log_7 8$ | י. $\frac{1}{4} \log 81 - \log 1.5 - \frac{1}{2} \log 40$                             |

(2) חשב ללא מחשבון את ערכי הביטויים הבאים (שימוש בחוקי הלוגים):

- |   |  |
|---|--|
| א. $\frac{\log_5 16}{\log_5 8}$                             | ב. $\frac{\log_9 62.5 + \log_9 2}{\log_9 0.2}$                                   |
| ג. $\frac{\log_3 5 - \log_3 2 + \log_3 50}{\log_3 225 - 2}$ | ד. $\frac{2 - 2 \log_3 4 + \log_3 8 \frac{8}{9}}{4 - \log_3 0.01 - 2 \log_3 18}$ |

## משוואות לוגריתמיות:

(3) פתור את המשוואות הבאות (שימוש ישיר בחוקי הלוגריתמים):

א.  $\log_2 x + \log_2 (x-6) = 4$       ב.  $\log_3 x + \log_3 (x+2) = 1$

ג.  $\log_2 (x+30) - \log_2 x = 4$       ד.  $\log_5 (x+146) - \log_5 (x+2) = 2$

ה.  $2\log_3 (2x-1) - \log_3 (22x+9) = -1$

ו.  $2\log_5 (x-2) = \log_5 (4x-15) + \log_5 x$

(4) פתור את המשוואות הבאות (פתרון בשיטת לוג שווה לוג):

א.  $\log_5 (4x-3) = \log_5 7$

ב.  $2\log_2 (2x-2) - \log_2 (16-x) = \log_2 (x-1) + 1$

(5) פתור את המשוואות הבאות (מתקבלת משוואה מעריכית):

א.  $\log_3 (3 \cdot 5^x + 39) = 3 + \log_3 (5^x - 3)$

ב.  $\log_2 (3 - 4^{x+1}) - \log_2 11 = x$

(6) פתור את המשוואות הבאות (שימוש הפוך בחוקי הלוגריתמים):

א.  $\log_4 x \cdot \log_4 (16x) = 8$

ב.  $\log_2 \left(\frac{x}{4}\right) \cdot \log_2 (1024x) = -11$

ג.  $\log_2 x^2 \log_2 \left(\frac{x}{16}\right) = -\log_2 (64x)$

ד.  $(\log_4 4x)^2 = \log_4 4x^2 + 1$

ה.  $\log_3 (9x^2) \cdot \log_3 (9x^3) = \log_3 \left(\frac{81}{x}\right) + 2$

ו.  $\frac{\log_2 \left(\frac{x^3}{32}\right)}{(\log_2 x)^2} + \frac{\log_2 (2x)}{\log_2 x} = 1\frac{7}{9}$

**שאלות הבעה:**

(7) נתון:  $\log_3 2 = a$ . הבע באמצעות  $a$  את ערכי הביטויים הבאים:

א.  $\log_3 16$       ב.  $\log_3 6$

ג.  $\log_3 24$       ד.  $\log_3 1.5$

(8) נתון:  $\log_2 3 = a$ ,  $\log_2 5 = b$ . הבע באמצעות  $a$  ו- $b$  את ערכי הביטויים הבאים:

א.  $\log_2 45$       ב.  $\log_2 60$       ג.  $\log_2 \sqrt{7.5}$

(9) נתון:  $\log_{18} 2 + \log_{18} 3 = a$ .

הבע באמצעות  $a$  את  $\log_{18} 27$  ואת  $\log_{18} 16$ .

**שאלות נוספות:**

בכל אחת מהמשוואות הבאות, חשב את ערך הביטוי שמשמאל וקבל את התוצאה מימין:

$$\log 4 \log 40 + \log 5 \log 16 = \log 64 \quad (10)$$

$$2 \log^2 2 + \log 25 \cdot \log 20 = 2 \quad (11)$$

$$\log_{12} 16 \cdot \log_{12} 4 + \log_{12} 9 \cdot \log_{12} 48 = 2 \quad (12)$$

$$\log_5 10 \cdot \log_5 75 - \log_5 3 \cdot \log_5 2 - \log_5 3 - \log_5 4 = 2 \quad (13)$$

## תשובות סופיות:

- (1) א. 3    ב. -3    ג. 1    ד. -2    ה. 2    ו. -0.5  
 ג. 6    ו. 1
- (2) א.  $\frac{4}{3}$     ב. -3    ג. 1.5    ד. 0.5
- (3) א.  $x=8$     ב.  $x=3, \frac{1}{27}$     ג.  $x=2$     ד.  $x=4$     ה.  $x=3$     ו.  $x=4$
- (4) א.  $x=2.5$     ב.  $x=6$
- (5) א.  $x=1$     ב.  $x=-2$
- (6) א.  $x=16, \frac{1}{256}$     ב.  $x=2, \frac{1}{512}$     ג.  $x=4, 2\sqrt{2}$     ד.  $x=4, \frac{1}{4}$     ה.  $x=\frac{1}{9}, \sqrt[9]{3}$     ו.  $x=8, \sqrt[7]{2^{15}}$
- (7) א.  $4a$     ב.  $a+1$     ג.  $3a+1$     ד.  $1-a$
- (8) א.  $2a+b$     ב.  $2+a+b$     ג.  $\frac{1}{2}a + \frac{1}{2}b - \frac{1}{2}$
- (9)  $4(2a-1), 3(1-a)$
- (10) הוכחה.
- (11) הוכחה.
- (12) הוכחה.
- (13) הוכחה.

## חישובים עם חזקה לוגריתמית:

### סיכום כללי:

מהגדרת הלוגריתם ניתן לנסח את הקשר הבא:  $a^{\log_a x} = x$  כאשר  $a > 0 \neq 1$ .

### שאלות:

(1) חשב ללא מחשבון את ערכי הביטויים הבאים (חזקה לוגריתמית):

א.  $6^{\log_6 8}$       ב.  $4^{\log_2 5}$

(2) נתונה התבנית:  $3 \cdot 4^x$ . חשב את ערכה עבור:

א.  $x = \log_4 7$       ב.  $x = \log_4 \sqrt{3}$

ג.  $x = 2 \log_4 0.1$       ד.  $x = \sqrt{\log_2 5}$

(3) נתונה התבנית:  $\frac{1}{6} \cdot 9^x - 2 \cdot 3^x + 1$ . חשב את ערכה עבור:

א.  $x = -1$       ב.  $x = \log_3 5$

ג.  $x = \log_3 \sqrt{6}$

(4) חשב:

א.  $\left(\frac{1}{6}\right)^{\log_{\sqrt{56}} 81}$       ב.  $\sqrt[3]{2^{3-\log_{\sqrt{8}} 5}}$

### תשובות סופיות:

(1) א. 8      ב. 25

(2) א. 21      ב.  $3\sqrt{3}$       ג. 0.03      ד. 15

(3) א.  $\frac{19}{54}$       ב.  $-4\frac{5}{6}$       ג.  $2 - 2\sqrt{6}$

(4) א.  $\frac{1}{81}$       ב.  $\frac{2}{\sqrt[2]{25}}$

## מעבר בין בסיסים:

### סיכום כללי:

מעבר מבסיס  $a$  לבסיס  $m$  (כאשר:  $a > 0 \neq 1$  ו- $m > 0 \neq 1$ , וכן:  $b > 0$ )

$$\log_a b = \frac{\log_m b}{\log_m a}$$

יתבצע באופן הבא:

### שאלות:

#### שאלות חישוב כלליות:

(1) חשב את ערכי הביטויים הבאים:

ב.  $\log_{0.1} 3 \cdot \log_9 1000$

א.  $\log_4 7 \cdot \log_7 4$

ד.  $\log_4 169 \cdot \log_{25} 64 \cdot \log_{13} 625$

ג.  $\log_{\sqrt{3}} 5 \cdot \log_{\sqrt{125}} 9$

(2) הוכח את השוויונים הבאים:

א.  $\log_2 25 \cdot \log_5 3 \cdot \log_9 2 = 1$

ב.  $\log_{16} 9 \cdot \log_5 4 \cdot \log_3 5 = 1$

#### משוואות לוגריתמיות:

(3) פתור את המשוואות הבאות:

ב.  $\log_3 x \cdot \log_{27} x = 3$

א.  $\log_2 x + \log_{32} x = 6$

ד.  $\log_x 5 - 6 \log_{125} x = 1$

ג.  $\log_2 4x \cdot \log_8 \frac{x}{16} = -\frac{5}{3}$

### שאלות הבעה:

(4) נתון:  $\log_4 6 = a$ . הבע באמצעות  $a$  את ערכי הביטויים הבאים:

ג.  $\log_{216} 96$

ב.  $\log_{32} 36$

א.  $\log_2 3$

(5) נתון:  $\log_2 3 = a$ ,  $\log_3 5 = b$ . הבע באמצעות  $a$  ו- $b$  את ערכי הביטויים הבאים:

ג.  $\log_5 22.5$

ב.  $\log_2 \sqrt{30}$

א.  $\log_3 50$

6 נתון  $\log_3 7 = a$ ,  $\log 9 = 2b$ . הבע באמצעות  $a$  ו- $b$  את:

א.  $\log 21$ .

ב.  $\log_3 \left( \frac{10}{7} \right)$ .

ג.  $\log_7 10$ .

ד.  $\log_{30} 63$ .

**שאלות נוספות:**

בכל אחת מהמשוואות הבאות, חשב את ערך הביטוי שמשמאל וקבל את התוצאה מימין:

7  $\log_6 9 \cdot \log_{15} 30 + \log_6 5 \cdot \log_{15} 4 = 2$

8  $\log \sqrt{3} \cdot \log_6 50 + \log \sqrt{2} \cdot \log_6 300 = 1$

**תשובות סופיות:**

1 א. 1      ב. -1.5      ג.  $2\frac{2}{3}$       ד. 12

2 א. שאלת הוכחה.      ב. שאלת הוכחה.

3 א.  $x = 32$       ב.  $x = 27, \frac{1}{27}$       ג.  $x = 8, \frac{1}{2}$       ד.  $x = \frac{1}{5}, \sqrt{5}$

4 א.  $2a - 1$       ב.  $0.8a$       ג.  $\frac{a+2}{3a}$

5 א.  $2b + \frac{1}{a}$       ב.  $\frac{a}{2} + \frac{ab}{2} + \frac{1}{2}$       ג.  $\frac{2}{b} + 1 - \frac{1}{ab}$

6 א.  $b + ab$       ב.  $\frac{1}{b} - a$       ג.  $\frac{1}{ab}$       ד.  $\frac{ab+2b}{b+1}$

7 הוכחה.

8 הוכחה.

## הלוגריתם הטבעי:

### סיכום כללי:

לוגריתם על בסיס  $e$  (קבוע אוילר) מסומן:  $\log_e \Rightarrow \ln$  והוא נקרא הלוגריתם הטבעי. למשל:  $\ln 3 = \log_e 3$  או  $\ln \frac{1}{4} = \log_e \frac{1}{4}$ . לוג זה נקרא בשם לן. מהגדרת הלוגריתם מתקיים:  $\ln a = b \rightarrow e^b = a$  כאשר  $a > 0$  ו- $b$  מספרים כלשהם.

### שאלות:

(1) חשב ללא מחשבון את ערכי הביטויים הלוגריתמיים הטבעיים הבאים:

$$\text{א. } \ln e^2 \quad \text{ב. } \ln \frac{1}{e^4} \quad \text{ג. } \ln \frac{1}{e\sqrt{e}}$$

(2) פתור את המשוואות הלוגריתמיות הבאות (שימוש בהגדרת הלוג):

$$\text{א. } \ln x = 2 \quad \text{ב. } \ln x = -\frac{1}{2}$$

(3) פתור את המשוואות הבאות (הצבה וחוקי הלוגריתמים):

$$\begin{aligned} \text{א. } \ln\left(e^{2x} - \frac{1}{2}\right) + \ln 2 = x \\ \text{ב. } 3 \ln^2 x + \ln x = 2 \\ \text{ג. } \ln(e^2 x^3) \cdot \ln \frac{1}{x} = \ln(ex^2) \end{aligned}$$

(4) פתור את המשוואות הלוגריתמיות הבאות (הוצאת לוג משני אגפי המשוואה)

$$\text{א. } x^{\ln x} = e^6 x \quad \text{ב. } \left(\frac{1}{x}\right)^{2-3 \ln x} = \frac{1}{e} \cdot x^{1+\ln x}$$

(5) חשב ללא מחשבון את ערכי הביטויים הבאים (חזקה לוגריתמית):

$$\text{א. } e^{\ln 3} \quad \text{ב. } e^{2 \ln 3}$$

## תשובות סופיות:

1 (א. 2      ב. -4      ג. -1.5)

2 (א.  $x = e^2$       ב.  $x = \frac{1}{\sqrt{e}}$ )

3 (א.  $x = 0$       ב.  $x = \sqrt[3]{e^2}, \frac{1}{e}$       ג.  $x = \frac{1}{\sqrt[3]{e}}, \frac{1}{e}$ )

4 (א.  $x = e^3, \frac{1}{e^2}$       ב.  $x = \sqrt{e}, e$ )

5 (א. 3      ב. 9)

## משוואות עם בסיסים שונים:

### סיכום כללי:

לעיתים תתקבל משוואה מעריכית שבה לא ניתן למצוא חזקה שלמה, כגון:  $3^x = 4$ . במקרים אלו נעזר בהגדרת הלוג כדי לבטא את ערך המעריך:  $x = \log_3 4$ . את ערך הביטוי  $\log_3 4$  ניתן לחשב ע"י מחשבון או ע"י מעבר לבסיס 10:  $\log_3 4 = \frac{\log 4}{\log 3}$ .

### שאלות:

(1) פתור את המשוואות הבאות (בסיסים שונים):

א.  $3^x = 6$       ב.  $2^x - 9 = 0$

ג.  $49^x - 8 \cdot 7^x + 15 = 0$       ד.  $2 \cdot 3^{\frac{2x}{3}} + 5 \cdot 3^{\frac{x}{3}} + 2 = 0$

(2) פתור את המשוואות הבאות (משוואות עם בסיס ולוגריתם טבעי):

א.  $e^{3x} = 3$       ב.  $4 + 3e^x = 9$

ג.  $3e^{2x} - 4e^x + 1 = 0$       ד.  $e(e^x + 1) = 2\sqrt{e^{x+2}} + 9e$

(3) פתור את המשוואות הבאות (משוואות כלליות עם פתרונות לא שלמים):

א.  $\log_2(7 - 5^x) = \log_2 \frac{10}{5^x}$       ב.  $\log_2(4e^{2x} + 6) - 1 = \log_2(7e^x)$

### תשובות סופיות:

(1) א.  $x = \log_3 6 = 1.63$       ב.  $x = \log_2 9 = 3.17$

ג.  $x = \log_7 3 = 0.564$ ,  $x = \log_7 5 = 0.827$       ד. אין פתרון.

(2) א.  $x = \frac{1}{3} \ln 3 = 0.36$       ב.  $x = \ln \frac{5}{3} = 0.51$       ג.  $x = 0$ ,  $x = -\ln 3 = -1.09$

ד.  $x = \ln 16 = 2.7725$

(3) א.  $x = 1$ ,  $x = \log_5 2 = 0.43$       ב.  $x_1 = \ln \frac{1}{2} = -0.693$ ,  $x = \ln 3 = 1.098$

## מערכת משוואות לוגריתמיות:

### שאלות:

פתור את מערכות המשוואות הבאות:

$$\begin{cases} \log_6^2 x - \log_6(2y-2) = 2 \\ \frac{1}{2}x = y-1 \end{cases} \quad (2) \qquad \begin{cases} y = \log_2 x \\ y = 6 - \log_2 x \end{cases} \quad (1)$$

$$\begin{cases} \log_3(x+y) = \log_3(4x+y) - 2 \\ \log_5(5x+3y) = 2 \end{cases} \quad (3)$$

$$\begin{cases} \log_2(\log_3(x-y)) = 1 \\ \log_5(x+y-11) = \log_{25} x + \frac{1}{2}\log_5(y+2) \end{cases} \quad (4)$$

$$\begin{cases} \log_2 x^2 + \log_3 \frac{1}{y} = 9 \\ \log_2 \sqrt{x} + \log_{\sqrt[3]{3}} y = -1 \end{cases} \quad (6) \qquad \begin{cases} \log_5 x + 6\log_4 y = 11 \\ 10\log_5 x - 2\log_4 y = 17 \end{cases} \quad (5)$$

$$\begin{cases} xy = 27 \\ x^{\log_3 y} = 9 \end{cases} \quad (8) \qquad \begin{cases} \log_5 x + 2^{\log_2 y} = 6 \\ x^y = 5^8 \end{cases} \quad (7)$$

$$\begin{cases} 2^{\frac{\log_1(2x-y)}{2}} = 7^{\log_7 \frac{2x+y}{15}} \\ \log_3 x + \log_3 y = \frac{1}{\log_{28} 3} \end{cases} \quad (9)$$

### תשובות סופיות:

$$\begin{array}{llll} (8, -5) \quad (3) & (36, 19), \left(\frac{1}{6}, 1\frac{1}{12}\right) \quad (2) & & (8, 3) \quad (1) \\ \left(16, \frac{1}{3}\right) \quad (6) & (25, 8) \quad (5) & & (16, 7) \quad (4) \\ (4, 7) \quad (9) & (3, 9), (9, 3) \quad (8) & & (25, 4), (625, 2) \quad (7) \end{array}$$

## מערכת משוואות לוגריתמיות ומעריכיות:

### שאלות:

פתור את מערכות המשוואות הבאות:

$$\begin{cases} 25^y = (5\sqrt{5})^{x+1} \\ \log_5 \sqrt{x} + \log_5 \sqrt{y} = \log_5 3 \end{cases} \quad (2) \quad \begin{cases} y = \log_2(4^x - 2) \\ y = 2x - 1 \end{cases} \quad (1)$$

$$\begin{cases} x \cdot \log_2 3 = \frac{y}{\log_9 2} \\ \log_3(9^x + 27) = 2y + \log_3 12 \end{cases} \quad (4) \quad \begin{cases} 3y + 5 \log_6 x = 1 \\ 216 \cdot x^{2-y} = 6^{1-4y} \end{cases} \quad (3)$$

$$\begin{cases} x = \log_4(5 - 9^y) \\ \log_2(2^x + 3) = \log_4(29 - (3^y - 3)^2) \end{cases} \quad (6) \quad \begin{cases} (2^x - 1)^2 - 4y + 3 = 0 \\ x = \log_2(y + 1) \end{cases} \quad (5)$$

### תשובות סופיות:

$$(36, -3), \left(6, -1\frac{1}{3}\right) \quad (3) \quad (3, 3) \quad (2) \quad (1, 1) \quad (1)$$

$$(1, 0) \quad (6) \quad (1, 1), (2, 3) \quad (5) \quad \left(1, \frac{1}{2}\right), (2, 1) \quad (4)$$

## אי-שוויונים לוגריתמים:

### סיכום כללי:

פתרון אי-השוויון:  $\log_a x > \log_a y$  הוא: עבור  $x > y$ : עבור  $a > 1$  ו- עבור  $x < y$ : עבור  $0 < a < 1$ .

### שאלות:

פתור את אי-השוויונים הבאים:

$\log_6(x^2 - 5x) < 1$ (2)	$\log_2 x < \log_2(5x - 20)$ (1)
$\log_{\frac{1}{2}}(1 - 3x) \geq \log_{\frac{1}{2}}(7 - x)$ (4)	$\log_3 x > \log_9(15 - 2x)$ (3)
$\ln x < 3$ (6)	$\ln x \geq \ln(x^2 - 12)$ (5)
$\frac{6}{\ln^2 x} \geq 2 - \frac{1}{\ln x}$ (8)	$\ln^2 x - 6 \ln x < 7$ (7)

### תשובות סופיות:

$-1 < x < 0, 5 < x < 6$ (2)	$x > 5$ (1)
$-3 \leq x \leq \frac{1}{3}$ (4)	$3 < x < 7\frac{1}{2}$ (3)
$0 < x < e^3$ (6)	$2\sqrt{3} < x \leq 4$ (5)
וגם $x \neq 1$ וגם $\frac{1}{\sqrt{e^3}} \leq x \leq e^2$ (8)	$\frac{1}{e} < x < e^7$ (7)

# קורס מתמטיקה להנדסאי טכנולוגיות מים

פרק 10 - בעיות גדילה ודעיכה

תוכן העניינים

149	1. שאלות חימום
153	2. שאלות העוסקות במציאת הכמות הסופית
154	3. שאלות העוסקות במציאת הכמות ההתחלתית
155	4. שאלות העוסקות במציאת אחוז הגדילה או דעיכה
156	5. שאלות העוסקות במציאת הזמן
157	6. שאלות שונות

## שאלות חימום:

### סיכום כללי:

#### הגדרת בעיית גדילה ודעיכה מערכית:

הכמות לאחר פרק זמן  $t$ , המסומנת  $M_t$ , כאשר הכמות ההתחלתית היא  $M_0$  וקצב הגידול/דעיכה הוא  $q$  ניתנת ע"י הנוסחה הבאה:  $M_t = M_0 \cdot q^t$ .

כאשר הגדילה או הדעיכה נתונים באחוזים נמצא את הבסיס לפי:  $q = \frac{100 \pm p}{100}$ .

### שאלות:

(1) מצא את שיעור הגדילה/דעיכה מתוך אחוז הגדילה/דעיכה הנתון בבעיה.

- א. מחיר מוצר גדל ב-20% לשנה.
- ב. מחיר מוצר יורד ב-40% לשנה.
- ג. אוכלוסייה מתרבה ב-5% לשנה.
- ד. מחיר דירה עולה ב-15% לשנה.
- ה. כמות דבורים גדלה פי 2 כל יום.
- ו. מחירו של פסל גדל פי 3 כל שנה.
- ז. רכב מאבד רבע מערכו בכל שנה.
- ח. מנייה מאבדת מחצית מערכה כל חודש.

(2) מצא את אחוזי הגדילה/דעיכה מתוך הבסיסים הבאים:

- |               |               |
|---------------|---------------|
| א. $q = 1.2$  | ב. $q = 1.6$  |
| ג. $q = 0.85$ | ד. $q = 0.72$ |

(3) מצא את  $M_0$ :

- |                                |                              |
|--------------------------------|------------------------------|
| א. $107.2 = M_0 \cdot 1.05^6$  | ב. $70.8 = M_0 \cdot 1.12^4$ |
| ג. $2213.68 = M_0 \cdot 1.4^8$ |                              |

(4) מצא את  $q$  :

א.  $25 = 10 \cdot q^6$   
 ב.  $512.36 = 6 \cdot 10^7 \cdot q^{40}$   
 ג.  $10^3 = 2.4 \cdot 10^6 \cdot q^{25}$   
 ד.  $9.35 = 7 \cdot q^{10.5}$   
 ה.  $6.42 \cdot 10^4 = 10^7 \cdot q^{\frac{3}{3}}$   
 ו.  $13.25 = 9.2 \cdot q^{12.3}$

(5) מצא את  $t$  :

א.  $10 \cdot 1.05^t = 70$   
 ב.  $62.08^t = 39.68$   
 ג.  $7 \cdot 10^7 \cdot 0.82^t = 10^5$

(6) אוכלוסיית חיידקים מתרבה בכל דקה פי 2. בשעה 10:30 בדקו במעבדה מדגם ובו 50 חיידקים.  
 א. כמה חיידקים יהיו כעבור דקה אחת?  
 ב. כמה חיידקים יהיו כעבור שתי דקות?  
 ג. כמה חיידקים יהיו בשעה 10:50?

(7) כמות של חומר רדיואקטיבי קטנה בצורה מעריכית בכל שבוע ב-2.8%. במעבדה נשקלה כמות של 2000 גרם של החומר.  
 א. מה תהיה כמות החומר כעבור שבועיים?  
 ב. מה תהיה כמות החומר כעבור שלושה חודשים?  
 ג. האם תישאר כמות מסוימת מהחומר כעבור שנה בת 52 שבועות?

(8) מחירו של מוצר לאחר 3 שנים הוא 250 ₪. ערך המוצר יורד ב-25% מדי שנה. מה היה מחירו ההתחלתי?

(9) שרון רצה בכל יום מרחק הגדול ב-10% מאשר ביום הקודם. ידוע כי שרון רצה מרחק של 2.5 ק"מ ביום השביעי. כמה ק"מ רצה שרון ביום הראשון?

(10) אוכלוסייה במדינה מסוימת מתרבה בצורה מעריכית ב-3.1% בשנה. כיום יש במדינה זו 528,000 תושבים.  
 א. כמה תושבים יהיו במדינה זו בעוד 3 שנים?  
 ב. כמה תושבים היו במדינה זו לפני 4 שנים?

- 11** כמות אצות באגם מתרבה בצורה מעריכית. בכל שנה גדלה הכמות פי 4 מאשר בשנה שקדמה לה. כיום יש באגם  $2 \cdot 10^5$  ק"ג אצות.
- א. מה תהיה כמות האצות בעוד שנתיים?  
 ב. מה הייתה כמות האצות לפני שנה?  
 ג. מה תהיה כמות האצות בעוד שנתיים ושלושה חודשים?
- 12** מספר תושבים במדינה מסוימת גדל בשיעור קבוע. במשך 10 שנים גדלה האוכלוסייה במדינה מ-5.4 מיליון תושבים ל-7.2 מיליון תושבים.
- א. מה הוא קצב הריבוי בכל שנה במדינה?  
 ב. אם קצב הגידול של האוכלוסייה יישמר, מה יהיה מספר התושבים כעבור 10 שנים נוספות?
- 13** בגן חיות ספרו את מספר התוכים. בספירה הראשונה נספרו 1200 תוכים. בספירה השנייה, כעבור 6 חודשים, נספרו 1450 תוכים.
- א. מה הוא קצב הגידול החודשי של התוכים?  
 ב. מה יהיה מספרם של התוכים כעבור שנה וחצי מהספירה הראשונה?
- 14** כמות העצים ביער גדלה בצורה מעריכית. אם כמות העצים ביער בשנת 1950 הייתה  $5 \cdot 10^4$  טון עצים ובשנת 1990 הייתה  $10^7$  טון עצים, מה היה אחוז הגידול השנתי (בהנחה שהגידול היה קבוע)?
- 15** כמות חומר רדיואקטיבי קטנה בצורה מעריכית. החומר נשקל שלוש פעמים ביום מסוים. בשעה 7:00 בבוקר היה משקל החומר 120 ק"ג. בשעה 10:30 בבוקר היה משקל החומר 95 ק"ג.
- א. מהו קצב התפרקות החומר הרדיואקטיבי לחצי שעה?  
 ב. מה תהיה כמות החומר בשעה 15:00 אחר הצהריים?
- 16** מכונית מאבדת  $\frac{5}{8}$  מערכה במשך 10 שנים.
- א. מהו קצב ירידת הערך של המכונית בכל שנה?  
 ב. איזה אחוז מערכה תאבד המכונית כעבור 15 שנה?
- 17** מספר התושבים במדינה מסוימת גדל פי 3.5 ב-40 שנים.
- א. מצא מהו אחוז הריבוי השנתי.  
 ב. מצא פי כמה יגדל מספר התושבים כעבור 58 שנים?

## תשובות סופיות:

ד. 1.15	ג. 1.05	ב. 0.6	א. 1.2 (1)
	ח. 0.5	ו. 3. ז. 0.75	ה. 2
ד. 28% דעיכה.	ג. 15% דעיכה	ב. 60% גדילה	א. 20% גדילה (2)
	ג. 150	ב. 45	א. 80 (3)
ד. 1.028	ג. 0.732	ב. 0.7469	א. 1.165 (4)
		ו. 1.03	ה. 0.22
	ג. 33.01	ב. 0.89	א. 39.88 (5)
	ג. 52,428,800	ב. 200	א. 100 (6)
	ג. כן. 456.747 גרם.	ב. 1422.4 גרם.	א. 1889.56 גרם. (7)
			8. 592.6 ש"ח
			9. 1.41 ק"מ.
	ב. 467,304 תושבים.		א. 578,642 תושבים. (10)
	ג. 4,525,483.4 ק"ג.	ב. 50,000 ק"ג.	א. 3,200,000 ק"ג. (11)
		ב. 9.6 מיליון תושבים.	א. 1.029. (12)
		ב. 2117 תוכים.	א. 1.032. (13)
			(14) 14.16%
		ב. 70.35 גרם.	א. 0.9671. (15)
		ב. 77.1%.	א. 0.90657. (16)
		ב. 6.15	א. 3.18% (17)

## שאלות העוסקות במציאת הכמות הסופית:

### שאלות:

(1) מספר החסידות המגיעות כל שנה לאגם החולה יורד בצורה מעריכית בקצב של 2.4% בשנה. אם מספר החסידות שהגיעו השנה היה 6,000, מה יהיה מספר החסידות שיגיעו עוד 7 שנים?

(2) מספר התושבים בהרצליה בשנת 1990 היה 80,000. אחוז הגידול באוכלוסיית העיר הוא 3% בשנה. מה יהיה מספר התושבים בהרצליה בשנת 1998?

### תשובות סופיות:

(1) 5,062 חסידות.

(2) 101,342 תושבים.

## שאלות העוסקות במציאת הכמות ההתחלתית:

### שאלות:

3) מספר הזברות בטנזניה גדל בצורה מעריכית בקצב של 1.6% בשנה. כיום יש בטנזניה 45,000 זברות. כמה זברות היו בטנזניה לפני 16 שנים?

### תשובות סופיות:

3) 34,907 זברות.

## שאלות העוסקות במציאת אחוז הגדילה או דעיכה:

### שאלות:

- (4) מספר הלידות בבית החולים "איכילוב" גדל בצורה מעריכית. לפני 8 שנים היו ב"איכילוב" 500 לידות בחודש והשנה יש 600 לידות בחודש. מהו אחוז הגידול במספר הלידות החודשי משנה לשנה ב"איכילוב"?
- (5) מספר התושבים ביפן גדל פי 2 תוך 20 שנים. מה אחוז הגידול השנתי באוכלוסיית יפן?
- (6) מספר החיידקים במבחנה גדל בצורה מעריכית. אם לפני 6 שעות היו במבחנה 200 חיידקים ועכשיו יש בה 500 חיידקים, כמה חיידקים יהיו בה בעוד 4 שעות?

### תשובות סופיות:

- (4) 2.3%
- (5) 3.5%
- (6) 921 חיידקים.

## שאלות העוסקות במציאת הזמן:

### שאלות:

- (7) הריבית על תכנית חיסכון בבנק מסוים היא 2.4% בשנה. אדם הפקיד בתוכנית החיסכון 12,000 ₪. תוך כמה שנים יהיו ברשותו 15,000 ₪?
- (8) אוכלוסיית הדובים בקוטב הצפוני מכפילה את עצמה כל 18 שנה. אם היום יש בקוטב הצפוני 6,000 דובים, בעוד כמה שנים יהיו 8,000 דובים?
- (9) חומר רדיואקטיבי מתפרק בצורה מעריכית. אם בתוך 4 שעות הוא מאבד 20% ממשקלו, תוך כמה זמן יאבד 60% ממשקלו?
- (10) חומר רדיואקטיבי מתפרק בצורה מעריכית. אם בתוך 4 שעות הוא מאבד 20% ממשקלו, תוך כמה זמן יאבד 50% ממשקלו?
- (11) זמן מחצית החיים של חומר רדיואקטיבי הוא 16 ימים. תוך כמה ימים יאבד שליש ממשקלו?
- (12) בשעה 08:00 נלקחו שני חומרים רדיואקטיביים. מחומר א' נלקחו 150 גרם וזמן מחצית החיים שלו הוא 10 שעות. מחומר ב' נלקחו 117.4 גרם וזמן מחצית החיים שלו הוא 18 שעות. באיזו שעה משקל החומרים יהיה זהה?

### תשובות סופיות:

- (7) 9.41 שנים.  
 (8) 7.47 שנים.  
 (9) 16.43 שעות.  
 (10) 12.43 שעות.  
 (11) 9.43 ימים.  
 (12) 16:00

## שאלות שונות:

### שאלות:

**13** בנק א' נותן ריבית של 3% כל שנתיים בתוכנית חיסכון מסוימת. בנק ב' נותן ריבית של 4.5% כל 3 שנים בתוכנית חיסכון אחרת. אדם מתכוון להפקיד סכום כסף מסוים לתקופה של 18 שנה. באיזה בנק כדאי לו להשקיע את כספו?

**14** נתונות שתי תרבויות חיידקים, כל אחת גדלה בצורה מעריכית. בשעה מסוימת בתרבית א' היו 4,000 חיידקים ובתרבית ב' היו 500 חיידקים. נסמן:

$t_1$  - הזמן שחלף עד שבתרבית א' היו פי 2 חיידקים מאשר בתרבית ב'.  
 $t_2$  - הזמן שחלף עד שבתרבית ב' היו פי 2 חיידקים מאשר בתרבית א'.

חשב את היחס  $\frac{t_1}{t_2}$ .

**15** מספר החיידקים בתרבית גדל ב-  $p\%$  בכל שעה. בשעה מסוימת מספר החיידקים היה  $m$ . כעבור  $t$  שעות הוציאו  $m$  חיידקים מהתרבית וכעבור עוד  $t$  שעות היו  $6m$  חיידקים בתרבית. הבע את  $t$  באמצעות  $p$ .

### הערה:

שאלות 16-17 עוסקות בפתרון בעיות קיצון מעריכיות.

**16** נתונה הפונקציה:  $f(x) = 700 \cdot 1.08^x - 200x$ . מצא את ערך ה- $x$  של נקודת הקיצון של הפונקציה וקבע את סוגה.

**17** נתונות שתי בריכות דגים. בבריכה א' קצב הריבוי של מספר הדגים הוא 10% בחודש ובבריכה ב' הוא 20% בחודש. כמות הדגים בבריכה א' גדולה פי 5 מכמות הדגים בבריכה ב'. בעוד כמה חודשים לערך ההפרש בין כמות הדגים בבריכה א' לכמות הדגים בבריכה ב' יהיה מקסימלי?

**18** כמות עצים ביער גדלה בצורה מעריכית לפי אחוז ריבוי של 15% לשנה. בשנת 1990 נספרו כמות עצים מסוימת ביער. בשנת 2000 כרתו 30,000 עצים ולאחר 5 שנים נוספות, בשנת 2005, נספרו ביער 753365 עצים. מצא כמה עצים היו ביער בשנת 1990.

- 19** ערכה של דירה יורד מדי שנה באחוז קבוע של 6%. ידוע כי ערך הדירה לאחר 10 שנים מיום מכירתה נמוך ב-35,000 ₪ ממחירה המקורי.
- א. מצא את המחיר ההתחלתי של הדירה.
- ב. מצא לאחר כמה שנים ערך הדירה ירד מתחת ל-30,000 ₪.
- 20** שני בנקים מציעים שתי תכניות חיסכון כלהלן:
- בנק א' מציע תכנית חיסכון ל-8 שנים שבסופה סכום הקרן יגדל ב-80%.
- בנק ב' מציע תכנית חיסכון ל-6 שנים שבסופה סכום הקרן יגדל ב-60%.
- א. באיזה בנק אחוז הריבית השנתית גבוה יותר?
- ב. דני משקיע סכום כסף  $k$  לפי תכנית חיסכון של בנק א' ובתום התוכנית הוא מעביר את הסכום שעומד לרשותו לתכנית החיסכון של בנק ב'. רפי משקיע סכום כסף זהה  $k$  לפי תכנית חיסכון של בנק ב' ובתום התכנית הוא מעביר את הסכום שעומד לרשותו לתכנית החיסכון של בנק א'. למי יהיה סכום גדול יותר בתום שתי התכניות? נמק את תשובתך והראה חישוב מתאים.
- 21** שווי שתי מכוניות המוצעות למכירה הוא:
- מכונית א' - 60,000 ₪ ומכונית ב' - 85,000 ₪.
- ידוע כי ערך מכונית ב' יורד ב-4% בכל שנה וערך מכונית א' יורד ב-2.5% בכל שנה.
- א. מצא בעוד כמה שנים יהיו המחירים של שתי המכוניות זהים.
- ב. סיגל רוצה לקנות מכונית ולרשותה עומד סכום של 40,000 ₪. איזו מכונית תוכל לקנות סיגל קודם ולאחר כמה שנים מיום הצעתן?
- 22** כמות אצות בים מתרבה בצורה מעריכית. ידוע כי לאחר 40 שנים כמות אצות מכפילה את עצמה. כדי לצמצם את כמות האצות מבצעים עבודות ניקיון מדי שנה ובהן מנקים כ-200 ק"ג אצות. בחוף מסוים היו בשנת 1990 כ-1200 ק"ג אצות.
- א. מצא את קצב גידול האצות השנתי.
- ב. מצא כמה אצות יהיו בחוף המסוים בשנת 1993 לאחר הניקיון באותה שנה.
- 23** נתונות שתי כמויות התחלתיות זהות, האחת גדלה בצורה מעריכית והשנייה קטנה בצורה מעריכית. לשתי הכמויות אחוז גדילה/דעיכה קבוע והוא 5%.
- א. האם הזמן שבו הכמות הראשונה תגדל לכמות הכפולה מהכמות ההתחלתית שלה שווה לזמן שבו תקטן הכמות השנייה למחצית מהכמות ההתחלתית שלה? נמק והראה חישוב מתאים.
- ב. ללא קשר לנתון הקודם, הראה כי כדי ששתי הכמויות יגיעו ליעדיהן באותו הזמן אז הבסיסים שלהן  $(q_1, q_2)$  צריכים להיות מספרים הופכיים.

- (24) כמות חומר רדיואקטיבי קטנה בצורה מעריכית לפי אחוז קבוע  $p$  מדי שעה. ביום מסוים היו  $k$  גרם מהחומר. לאחר 3 שעות הוסיפו עוד  $k$  גרם לכמות שנותרה ולאחר 3 שעות נוספות מתברר שנשארו  $k$  גרם מהחומר. מצא את  $p$ .
- (25) ערך מנייה מסוימת גדל בצורה מעריכית. ידוע כי בשנת 1980 הייתה המנייה שווה  $k$  שקלים. המנייה גדלה באחוז קבוע של 2% לשנה עד לשנת 1992 ומשם צנחה בקצב של 5% לשנה במשך 8 שנים נוספות. לאחר מכן גדלה המנייה בקצב שנתי קבוע עד לשנת 2010. אדם הרוצה לקנות את המנייה שנת 2010 נוכח לדעת כי מחירה הוא  $1.5k$ . מצא באיזה אחוז עלתה המנייה לאחר הצניחה שלה.
- (26) מספר העופות בשמורת טבע גדל לפי אחוז קבוע של 3% לשנה. בשנה מסוימת נספרו 2300 עופות בשמורה, לאחר 5 שנים הוסיפו לשמורת הטבע 1000 עופות נוספים.
- א. מצא כמה עופות יהיו בשמורה לאחר 5 שנים נוספות.  
 ב. מצא תוך כמה שנים יהיה מספר העופות בשמורה זהה לזה שמצאת בסעיף א' אילולא היו מוסיפים את 1000 העופות הנוספים, אלא אם הייתה גדילה רציפה.
- (27) אדם מפקיד סכום של 120,000 ₪ לפי ריבית דריבית של 12% בשנה. כעבור  $t$  שנים הוא משך את כל הסכום שעמד לרשותו והפקיד אותו ל- $t$  שנים נוספות בתוכנית חיסכון חדשה לפי ריבית דריבית של 15%. בתום תקופה זו עמד לרשותו סכום של 330,252 ₪.
- א. מצא את  $t$ .  
 לאחר תקופה זו הוא מפקיד את סכום הכסף הסופי בתכנית לפי ריבית דריבית מסוימת. לאחר 5 שנים עמד לרשותו סכום של 821,772 ₪.  
 ב. מצא את אחוז הריבית החדש.
- (28) ערכן של שתי חלקות אדמה יורד בצורה מעריכית. ידוע כי בזמן שערכה של אדמה א' מגיע למחצית מערכה המקורי, ערכה של אדמה ב' מגיע ל-30% מערכה המקורי. לאחר 50 שנים אדמה א' מאבדת 60% מערכה.
- א. מצא את אחוז הדעיכה של אדמה ב'.  
 ב. ידוע כי לאחר 100 שנים ערכן של שתי האדמות שווה. ערכה המקורי של אדמה ב' הוא 100,000 ₪. מצא את ערכה המקורי של אדמה א'.

- (29)** מספר העופות בשמורת טבע גדל לפי אחוז קבוע של  $p$  אחוזים לשנה. בשנה מסוימת נספרו 3000 עופות בשמורה, לאחר 4 שנים הוסיפו לשמורה 1000 עופות נוספים.
- א. מצא את אחוז הגידול השנתי  $p$  אם ידוע כי לאחר 4 שנים נוספות היו בשמורת 5647 עופות.
- ב. מצא לאחר כמה שנים יהיו 5647 עופות אילולא היו מוסיפים את 1000 העופות הנוספים.
- (30)** בכוורת דבורים ידוע כי בכל 10 שעות כמות הדבורים גדלה פי 1.5.
- א. מצא באיזה אחוז גדלה כמות הדבורים בכל שעה.
- ב. מוציאים לאחר 10 שעות 3000 דבורים וידוע כי נשארו 1500 דבורים. חשב כמה דבורים היו בתחילה בכוורת.
- (31)** אדם מפקיד  $k$  שקלים בתוכנית חיסכון לפי ריבית שנתית של  $p\%$ . לאחר 5 שנים הוא מושך מהחיסכון  $k$  שקלים ולאחר 5 שנים נוספות מתברר כי הצטבר בפקדון שלו סך הכול  $2.5k$  ₪. מצא את  $p$ .
- (32)** ערך מנייה מסוימת גדל בצורה מעריכית. ידוע כי בשנת 1995 הייתה המנייה שווה  $k$  שקלים. המנייה גדלה באחוז קבוע של 5% לשנה עד לשנת 2000 ושם צנחה בקצב של 8% לשנה במשך 6 שנים נוספות. לאחר מכן גדלה המנייה בקצב שנתי קבוע עד לשנת 2010. אדם הרוצה לקנות את המנייה בשנת 2010 נוכח לדעת כי מחירה הוא  $k$ . מצא באיזה אחוז עלתה המנייה לאחר צניחתה.

**תשובות סופיות:**

(13) בנק א'.

$$\frac{t_1}{t_2} = \frac{1}{2} \quad (14)$$

$$t = \frac{\ln 3}{\ln\left(\frac{100+P}{100}\right)} \quad (15)$$

(16) מינימום,  $x = 17.04$ .

(17) 11 חודשים.

(18) 100,000 עצים.

(19) א. 75,858.5 ₪ ב. לאחר 15 שנים.

(20) א. בנק ב' ב. לשניהם אותו הסכום.

(21) א. לאחר 22.46 שנים. ב. מכונית א' ולאחר 16 שנים.

(22) א. 1.017 ב. 653.48 ק"ג אצות.

(23) א. הכמות השנייה תגיע ליעדה לפני הראשונה.

(24) 14.82%

(25) ב-5.95%

(26) א. 4250 עופות. ב. 20.77 שנים.

(27) א.  $t = 4$  ב.  $p = 20\%$ 

(28) א. 3.13% ב. 25,909 ₪

(29) א. 5% ב. 12.96 שנים.

(30) א. ב-4.1% ב. 3000 דבורים.

(31) 16.63%

(32) ב-6.6%

# קורס מתמטיקה להנדסאי טכנולוגיות מים

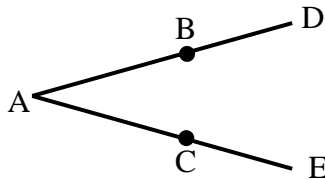
פרק 11 - מבוא לגאומטריה של המישור

תוכן העניינים

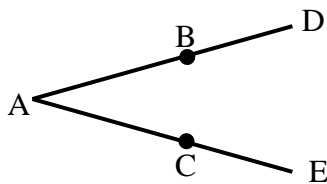
1. הגדרות כלליות	(ללא ספר)
2. חיבור וחסור קטעים	162
3. חישובי זוויות וחיבור וחסור זוויות	163
4. זוויות קדקודיות וזוויות צמודות	165
5. זוויות בין ישרים מקבילים	167

## חיבור וחסור קטעים:

### שאלות:



- (1) באיור שלפניך נתון:  $AB = AC$ ,  $BD = CE$ .  
 הוכח:  $AD = AE$ .



- (2) באיור שלפניך נתון:  $AD = AE$ ,  $AB = AC$ .  
 הוכח:  $BD = CE$ .

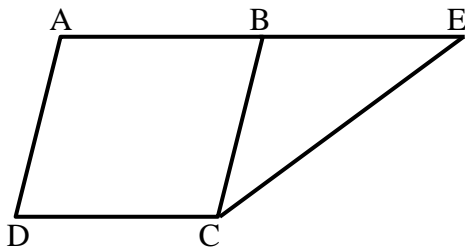
- (3) הנקודות A, M, N, K, B נמצאות על ישר אחד.



- נתון כי:  $AM = KB$ ,  $MN = NK$ .  
 הוכח:  $AN = BN$ .

- (4) בסרטוט שלפניך נתון כי:  $BC = AB$ ,  $BE + BC = 2AB$ .

הוכח:  $AB = BE$ .

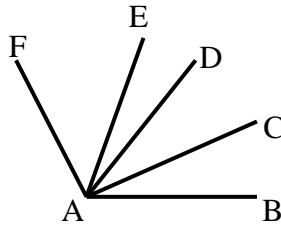


### תשובות סופיות:

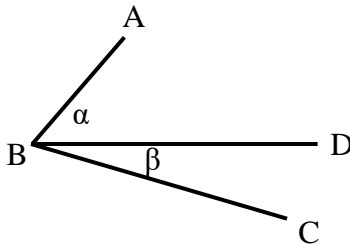
- (1) שאלת הוכחה.  
 (2) שאלת הוכחה.  
 (3) שאלת הוכחה.  
 (4) שאלת הוכחה.

## חישובי זוויות וחיבור וחסור זוויות:

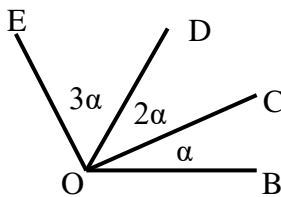
### שאלות:



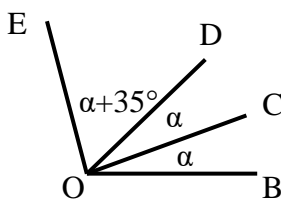
- (5) נתון:  $\angle CAB = \angle DAC$ ,  $\angle FAE = 2 \cdot \angle EAD$ ,  
 וכן:  $\angle EAB = 80^\circ$ ,  $\angle FAD = 60^\circ$ .  
 חשב את הזוויות הבאות:  
 $\angle FAB$ ,  $\angle EAC$ ,  $\angle CAB$



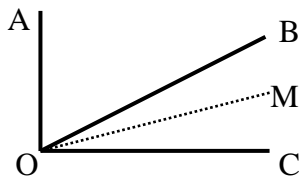
- (6) באיור שלפניך נתון:  $\angle ABC = 69^\circ$ .  
 נתון כי:  $\alpha = 2\beta$  (זוויות סמוכות).  
 מצא את  $\alpha$  ואת  $\beta$ .



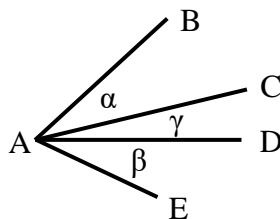
- (7) באיור שלפניך מספר קרניים היוצאים מהנקודה O.  
 הנתונים הם:  $\angle EOB = 138^\circ$ .  
 חשב את הזוויות הבאות:  
 $\angle EOD$ ,  $\angle DOC$ ,  $\angle COB$



- (8) באיור שלפניך נתון:  $\angle EOB = 110^\circ$ .  
 שאר הנתונים מופיעים בתרשים.  
 חשב את הזוויות הבאות:  
 $\angle EOC$ ,  $\angle DOC$



- (9) נתון האיור הבא ובו:  $\angle AOC = 90^\circ$ .  
 OM חוצה את זווית BOC.  
 מתקיים:  $\angle AOB = 3\angle MOC$ .  
 חשב את:  $\angle AOM$ ,  $\angle BOM$



- (10) בסרטוט שלפניך נתון:  $\alpha = \beta$ .  
 הוכח כי:  $\angle BAD = \angle EAC$ .

**תשובות סופיות:**

$$\angle FAB = 120^\circ, \angle EAC = 50^\circ, \angle CAB = 30^\circ \quad (5)$$

$$\alpha = 46^\circ, \beta = 23^\circ \quad (6)$$

$$\angle BOC = 23^\circ, \angle COD = 46^\circ, \angle DOE = 69^\circ \quad (7)$$

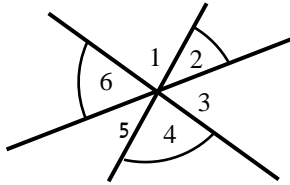
$$\angle EOC = 85^\circ, \angle DOC = 25^\circ \quad (8)$$

$$\angle AOM = 72^\circ, \angle BOM = 18^\circ \quad (9)$$

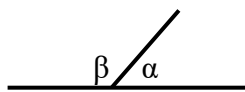
$$(10) \text{ שאלת הוכחה.}$$

## זוויות קדקודיות וזוויות צמודות:

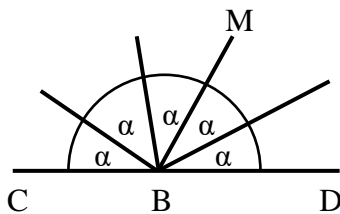
### שאלות:



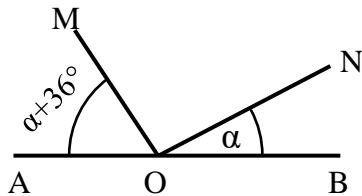
- 11) חשב את סכום הזוויות הבאות (נמק):  
 $\sphericalangle 2 + \sphericalangle 4 + \sphericalangle 6$



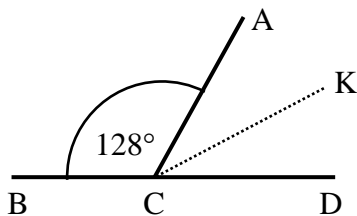
- 12) באיור שלפניך הזוויות  $\alpha$  ו- $\beta$  הן זוויות צמודות.  
 ידוע כי:  $\alpha = 63^\circ$ .  
 מצא את זווית  $\beta$ .



- 13) באיור שלפניך הזווית CBD היא שטוחה.  
 כל הזוויות שוות ל- $\alpha$ .  
 א. חשב את  $\alpha$ .  
 ב. חשב את זווית CBM.



- 14) בסרטוט שלפניך ידוע:  
 הזווית AOB היא שטוחה.  
 נתון:  $\alpha = 27^\circ$ .  
 הוכח כי:  $MO \perp NO$ .



- 15) הזוויות  $\sphericalangle ACD$  ו- $\sphericalangle ACB$  הן צמודות.  
 ידוע כי CK חוצה זווית ACD.  
 כמו כן:  $\sphericalangle ACB = 128^\circ$ .  
 חשב את זווית BCK.

**תשובות סופיות:**

(11)  $180^\circ$ .

(12)  $\beta = 117^\circ$ .

(13) א.  $\alpha = 36^\circ$  . ב.  $\sphericalangle CBM = 108^\circ$ .

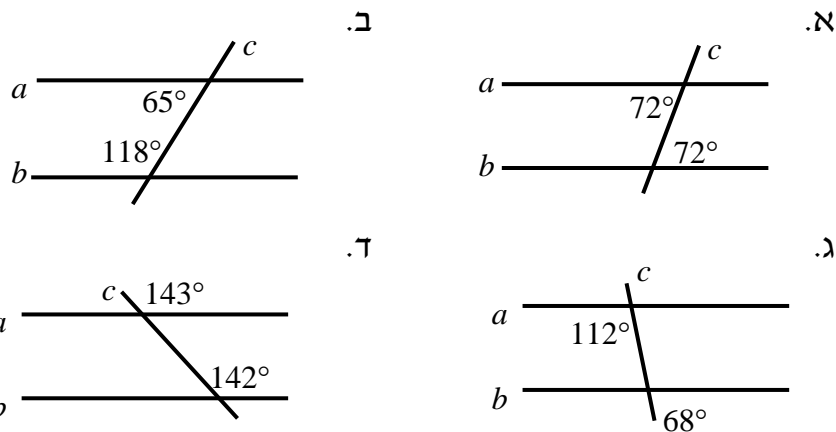
(14) שאלת הוכחה.

(15)  $\sphericalangle BCK = 154^\circ$ .

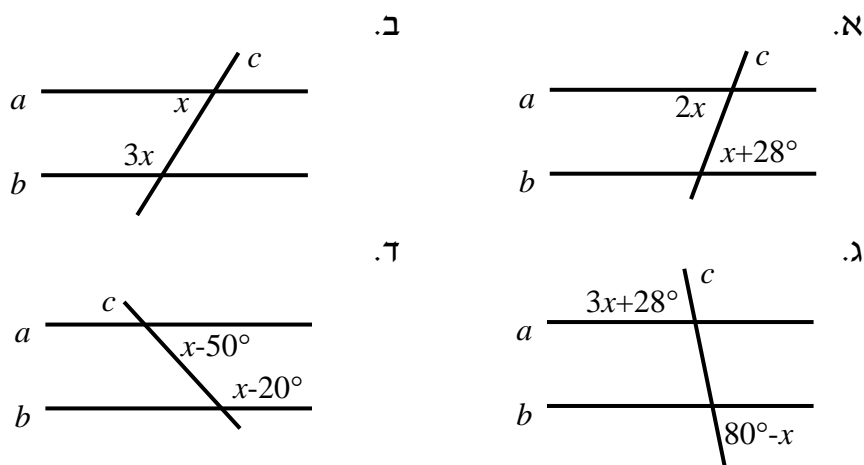
## זוויות בין ישרים מקבילים:

שאלות:

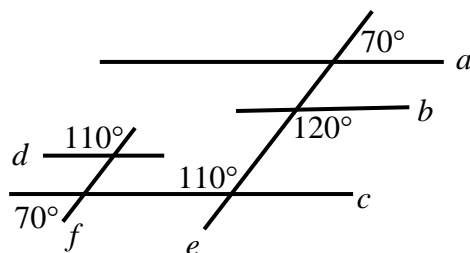
16) קבע בכל מקרה האם הישרים  $a$  ו- $b$  מקבילים או שלא. נמק.

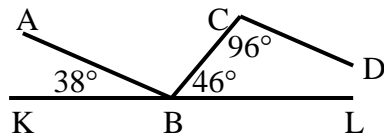


17) הישרים  $a$  ו- $b$  מקבילים. מצא את  $x$  בכל אחד מהמקרים הבאים:

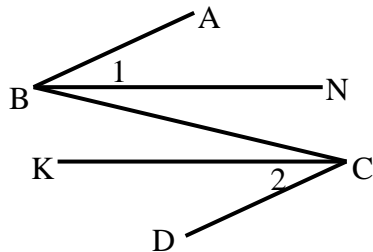


18) מצא את זוויות הישרים המקבילים בסרטוט הבא. נמק.

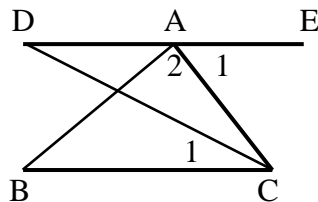




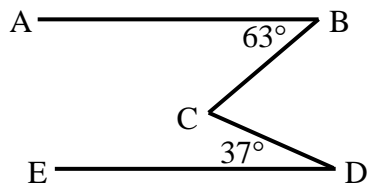
**19** בסרטוט שלפניך נתון כי KL הוא קו ישר.  
שאר הזוויות מופיעות בתרשים.  
הוכח כי:  $AB \parallel CD$ .



**20** באיור שלפניך נתון כי:  
 $\angle B_1 = \angle C_2$ ,  $\angle ABC = \angle BCD$   
הוכח כי:  $BN \parallel CK$ .



**21** באיור שלפניך מופיע קטע ישר DE.  
מהנקודה A מעבירים את הקטעים AB ו-AC.  
מחברים את BC וידוע כי  $BC \parallel DE$ .  
מעבירים את CD – חוצה זווית C.  
נתון:  $\angle A_1 = 68^\circ$ ,  $\angle A_2 = 85^\circ$ .  
א. חשב את הזווית  $\angle C_1$ .  
ב. חשב את הזווית  $\angle B$ .



**22** בסרטוט שלפניך נתון:  
 $\angle D = 37^\circ$ ,  $\angle B = 63^\circ$ ,  $AB \parallel DE$ .  
חשב את גודל הזווית BCD.

**תשובות סופיות:**

16) א. כן      ב. לא      ג. כן      ד. לא.

17) א.  $28^\circ$       ב.  $45^\circ$       ג.  $13^\circ$       ד.  $125^\circ$ .

18)  $a \parallel c \parallel d, e \parallel f$ .

19) שאלת הוכחה.

20) שאלת הוכחה.

21) א.  $34^\circ$       ב.  $27^\circ$ .

22)  $\sphericalangle BCD = 100^\circ$ .

# קורס מתמטיקה להנדסאי טכנולוגיות מים

פרק 12 - גיאומטריה אוקלידית - משולשים

תוכן העניינים

170	1. הגדרות כלליות
172	2. זוויות במשולשים
175	3. משולש שווה שוקיים ושווה צלעות
177	4. חפיפת משולשים
183	5. זווית חיצונית במשולש
184	6. משולש ישר זווית
187	7. קטע אמצעים במשולש
189	8. מפגש תיכונים במשולש

## הגדרות כלליות:

### סוגי משולשים:

ניתן למיין את המשולשים לפי זוויות או לפי צלעות.  
 לפי זוויות:

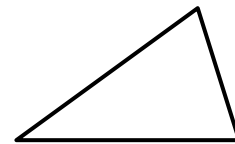
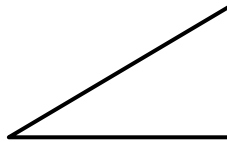
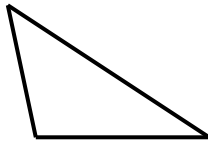
1. משולש חד זווית – משולש שכל זוויותיו חדות.
2. משולש ישר זווית – משולש בעל זווית ישרה.
3. משולש קהה זווית – משולש בעל זווית קהה.

לפי צלעות:

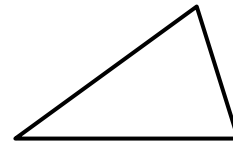
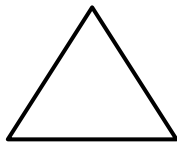
4. משולש שונה צלעות – משולש שבו כל הצלעות שונות באורכן.
5. משולש שווה שוקיים – משולש שבו שתי צלעות שוות.
6. משולש שווה צלעות – משולש שבו כל הצלעות שוות באורכן.

### איורים לכל מקרה לפי המספרים:

1. משולש חד זווית:      2. משולש ישר זווית:      3. משולש קהה זווית:



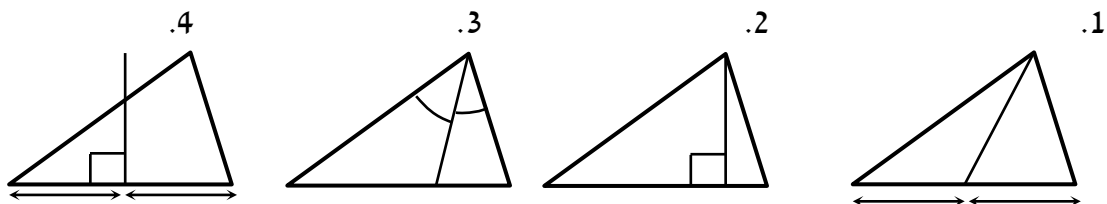
4. משולש שונה צלעות:      5. משולש שווה שוקיים:      6. משולש שווה צלעות:



### קטעים מיוחדים במשולשים:

1. תיכון – קטע היוצא מקדקוד לצלע שממולו וחוצה אותה.
2. גובה – קטע היוצא מקדקוד לצלע שממולו ומאונך לה.
3. חוצה זווית – קטע היוצא מקדקוד וחוצה את הזווית שממנה הוא יוצא.
4. אנך אמצעי – קטע היוצא מאמצע צלע ומאונך לה.

### איורים לכל מקרה לפי המספרים:



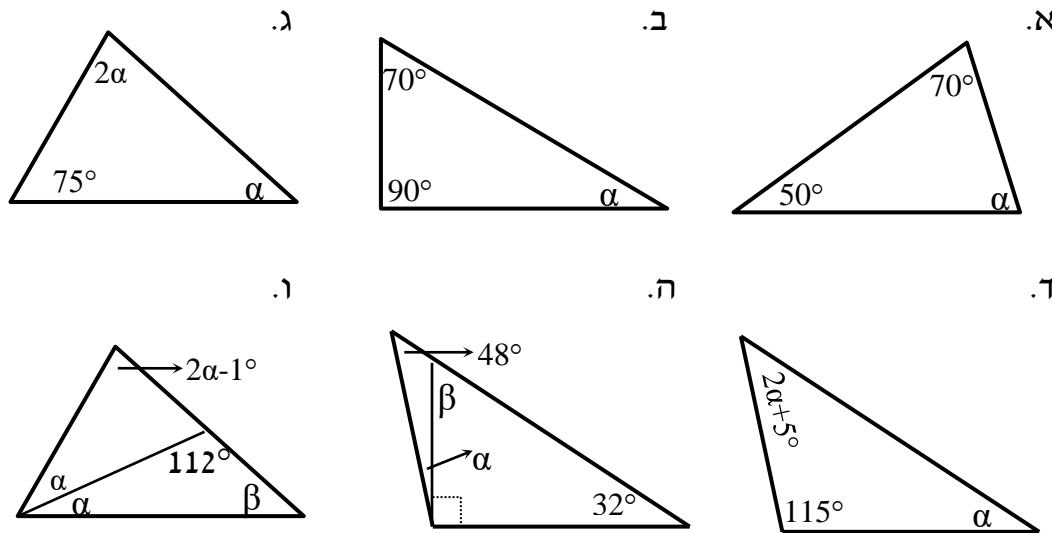
### משפטים כלליים במשולשים:

- סכום הזוויות במשולש הוא  $180^\circ$ .
- סכום שתי צלעות במשולש גדול מהצלע השלישית.
- במשולש מול הזווית הגדולה נמצאת הצלע הגדולה ולהפך.
- במשולש מול הזווית הקטנה נמצאת הצלע הקטנה ולהפך.
- במשולש מול זוויות שוות נמצאות צלעות שוות ולהפך.

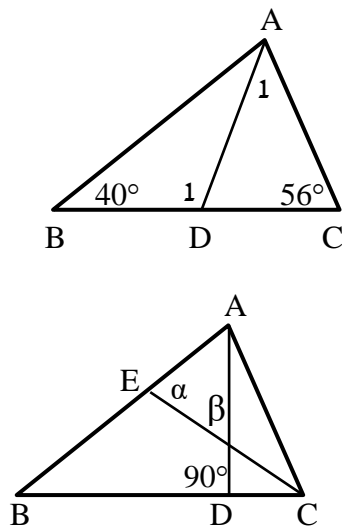
## זוויות במשולשים:

### שאלות:

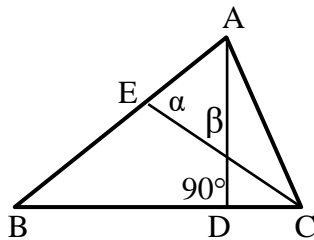
(1) חשב את הזוויות בכל אחד מהמשולשים שלפניך:



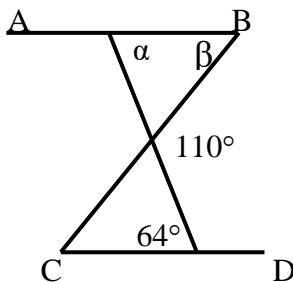
(2) במשולש שלפניך נתון AD חוצה זווית A.  
 נתון:  $\angle B = 40^\circ$ ,  $\angle C = 56^\circ$ .  
 חשב את הזוויות  $\angle A_1$ ,  $\angle D_1$ .



(3) נתון משולש ABC ובו AD גובה לצלע BC.  
 $\angle D = 90^\circ$  הקטע CE חוצה זווית C.  
 כמו כן:  $\alpha = 75^\circ$ ,  $\beta = 63^\circ$ .  
 חשב את זוויות המשולש ABC.

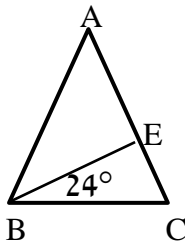
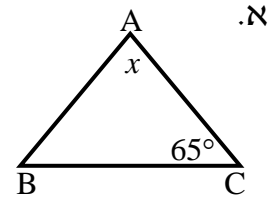
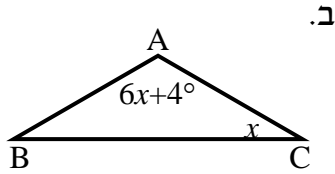


(4) בסרטוט שלפניך נתון:  $AB \parallel CD$ .  
 מצא את הזוויות  $\alpha$  ו- $\beta$ .



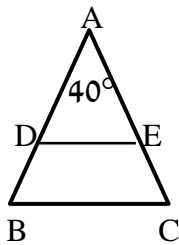
(5) שלוש זוויות המשולש מתייחסות זו לזו כמו: 1:2:6.  
 חשב את זוויות המשולש.

- 6 בסרטטים שלפניך נתונים משולשים שווי שוקיים ( $AB = AC$ ) שאחת מזוויותיהם נתונה. מצא את הגודל  $x$  בכל סרטוט.

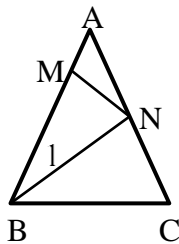


- 7 הגובה לשוק המשולש שווה השוקיים  $ABC$ , ( $AB = AC$ ), יוצר זווית בת  $24^\circ$  עם הבסיס  $BC$ . מצא את זוויות המשולש  $ABC$ .

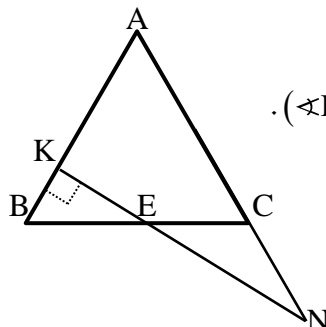
- 8 חשב את זוויות המשולשים בכל אחד מהמקרים הבאים:
- א. במשולש שווה שוקיים, זווית הבסיס גדולה פי ארבעה מזווית הראש. מצא את זוויות המשולש.
- ב. במשולש שווה שוקיים, זווית הבסיס גדולה ב- $12^\circ$  מזווית הראש. מצא את זוויות המשולש.



- 9 באיור שלפניך נתון:  $AD = AE$ ,  $AB = AC$ ,  $\angle A = 40^\circ$ .
- א. חשב את הזוויות:  $\angle B$ ,  $\angle C$ ,  $\angle D$ ,  $\angle E$ .
- ב. הוכח:  $DE \parallel BC$ .



- 10 באיור שלפניך נתון:  $AB = AC$ . מעבירים את הקטעים  $BN$  ו- $MN$  כך שמתקיים:  $BM = BN = BC$ . נתון בנוסף:  $\angle A = 32^\circ$ . חשב את זוויות:  $\angle B_1$ ,  $\angle ANM$ .



- 11 משולש  $ABC$  הוא שווה שוקיים ( $AB = AC$ ). בנקודה  $K$  כלשהי על  $AB$  מעלים אנך ל- $AB$  ( $\angle K = 90^\circ$ ). אנך זה חותך את  $BC$  בנקודה  $E$  ואת המשך  $AC$  בנקודה  $N$ . מתקיים:  $CE = CN$ . חשב את זוויות המשולש  $ABC$ .

## תשובות סופיות:

- (1) א.  $\alpha = 60^\circ$     ב.  $\alpha = 20^\circ$     ג.  $\alpha = 35^\circ$     ד.  $\alpha = 20^\circ$   
 ה.  $\alpha = 10^\circ, \beta = 58^\circ$     ו.  $\alpha = 37\frac{2}{3}^\circ, \beta = 30\frac{1}{3}^\circ$
- (2)  $\sphericalangle A_1 = 42^\circ, \sphericalangle D_1 = 98^\circ$
- (3)  $\sphericalangle A = 78^\circ, \sphericalangle B = 48^\circ, \sphericalangle C = 54^\circ$
- (4)  $\alpha = 64^\circ, \beta = 46^\circ$
- (5)  $20^\circ, 40^\circ, 120^\circ$
- (6) א.  $x = 50^\circ$     ב.  $x = 22^\circ$
- (7)  $\sphericalangle A = 48^\circ, \sphericalangle B = \sphericalangle C = 66^\circ$
- (8) א.  $20^\circ, 80^\circ, 80^\circ$     ב.  $52^\circ, 64^\circ, 64^\circ$
- (9) א.  $\sphericalangle B = \sphericalangle C = \sphericalangle D = \sphericalangle E = 70^\circ$     ב. שאלת הוכחה
- (10) א.  $\sphericalangle B_1 = 42^\circ, \sphericalangle ANM = 37^\circ$
- (11)  $\sphericalangle A = \sphericalangle B = \sphericalangle C = 60^\circ$

## משולש שווה שוקיים ושווה צלעות:

### סיכום כללי:

#### משפטים במשולש שווה שוקיים:

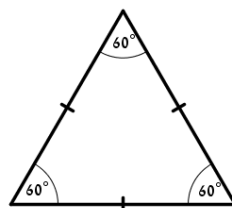
- במשולש שווה שוקיים זוויות הבסיס שוות זו לזו. (משפט הפוך) משולש שבו שתי זוויות שוות הוא משולש שווה שוקיים.
- במשולש שווה שוקיים חוצה זווית הראש, הגובה לבסיס והתיכון לבסיס מתלכדים. (משפט הפוך) משולש שבו חוצה זווית הוא גם גובה או חוצה זווית הוא גם תיכון או גובה הוא גם תיכון הוא משולש שווה שוקיים.

#### משפטים במשולש שווה צלעות:

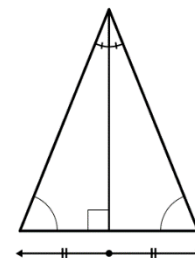
- במשולש שווה צלעות כל הזוויות שוות  $60^\circ$ . (משפט הפוך) משולש שבו כל הזוויות שוות הוא משולש שווה צלעות.

### איורים:

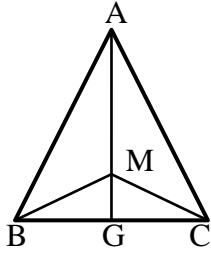
משפט במשולש שווה צלעות



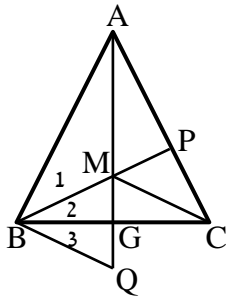
משפט במשולש שווה שוקיים



## שאלות:



- 12** המשולש ABC שבציור הוא שווה שוקיים ( $AB=AC$ ).  
 AG חוצה את זווית  $\sphericalangle A$ .  
 M היא נקודה כלשהי על AG.  
 הוכח כי:  $BM = CM$ .



- 13** המשולש ABC שבציור הוא שווה שוקיים ( $AB=AC$ ).  
 AG ו-BP חוצים את הזוויות  $\sphericalangle A$  ו- $\sphericalangle ABC$  בהתאמה.  
 הנקודה Q נמצאת על המשך AG.  
 נתון:  $GM = GQ$ .  
 הוכח:  $\sphericalangle B_1 = \sphericalangle B_3$ .

## תשובות סופיות:

- 12** שאלת הוכחה.  
**13** שאלת הוכחה.

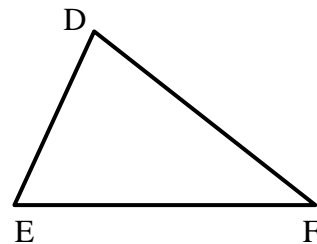
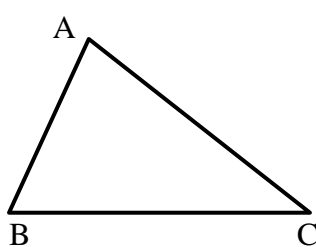
## חפיפת משולשים:

### סיכום כללי:

#### הגדרה:

משולשים חופפים הם משולשים ששווים זה לזה בכל צלעותיהם ובכל זוויותיהם בהתאמה.

$$\Delta ABC \cong \Delta DEF \Leftrightarrow \begin{cases} AB = DE, AC = DF, BC = EF \\ \sphericalangle A = \sphericalangle D, \sphericalangle B = \sphericalangle E, \sphericalangle C = \sphericalangle F \end{cases} \text{ סימון מתמטי:}$$

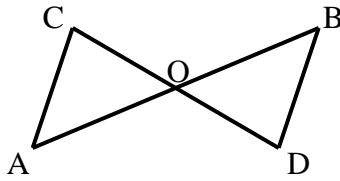


### משפטי החפיפה:

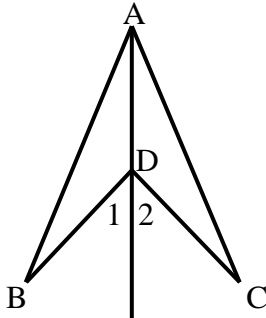
- משפט חפיפה צלע-זווית-צלע (צ.ז.צ.):  
אם בין שני משולשים שוות שתי צלעות והזווית שביניהן בהתאמה אז המשולשים חופפים.
- משפט חפיפה זווית-צלע-זווית (ז.צ.ז.):  
אם בין שני משולשים שוות שתי זוויות והצלע שביניהן בהתאמה אז המשולשים חופפים.
- משפט חפיפה צלע-צלע-צלע (צ.צ.צ.):  
אם בין שני משולשים שוות שלוש צלעות בהתאמה אז המשולשים חופפים.
- משפט חפיפה צלע-צלע-והזווית הגדולה (צ.צ.ז):  
אם בין שני משולשים שוות שתי צלעות והזווית שמול הצלע הגדולה מביניהן בהתאמה אז המשולשים חופפים.

## שאלות:

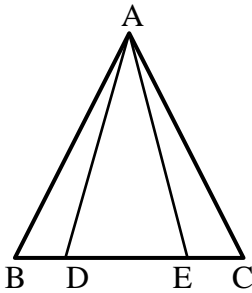
שאלות העוסקות במשפט חפיפה צלע-זווית-צלע:



- 14) באיור שלפניך הקטעים AB ו-CD חוצים זה את זה בנקודה O.  
 הוכח:  $\triangle ACO \cong \triangle BDO$ .

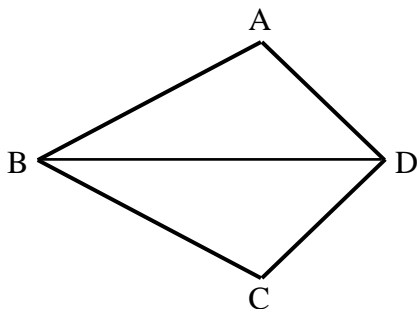


- 15) באיור שלפניך נתון:  $BD = CD$ .  
 כמו כן:  $\angle D_1 = \angle D_2$ .  
 הוכח:  $\triangle ABD \cong \triangle ACD$ .

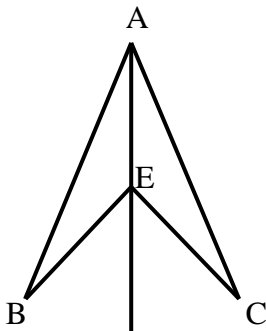


- 16) בסרטוט שלפניך נתון:  
 $AB = AC$ ,  $\angle B = \angle C$ ,  $BE = CD$ .  
 הוכח:  $\triangle ABD \cong \triangle ACE$ .

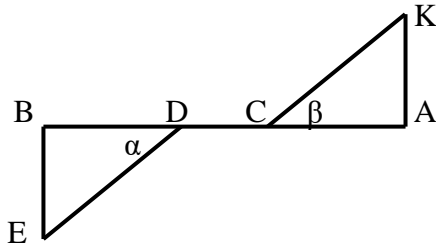
שאלות העוסקות במשפט חפיפה זווית-צלע-זווית:



- 17) במרובע ABCD נתון כי  $BD$  חוצה את זוויות B ו-D.  
 הוכח:  $\triangle ABD \cong \triangle CBD$ .



- 18) בסרטוט שלפניך נתון:  
 AE חוצה את הזוויות  $\angle BAC$  ו- $\angle BEC$ .  
 הוכח:  $\triangle ABE \cong \triangle ACE$ .



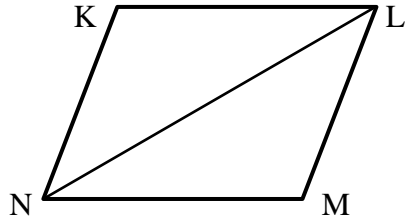
19) בציור שלפניך נתון:

$$AC = BD, \alpha = \beta$$

$$AB \perp BE, AB \perp AK$$

הוכח:  $\triangle AKC \cong \triangle BED$

שאלות העוסקות במשפט חפיפה צלע-צלע-צלע:

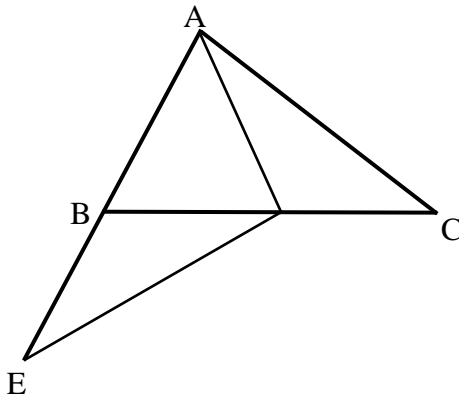


20) באיור שלפניך נתון:

$$KL = MN, KN = LM$$

הוכח:  $\triangle KLN \cong \triangle MLN$

שאלות העוסקות במשפט חפיפה צלע-צלע-זווית שמול הצלע הגדולה:

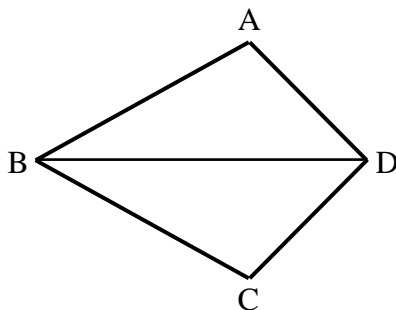


21) בציור שלפניך נתון:

$$AC = DE, AB = BE = AD$$

הוכח כי הנקודה D היא אמצע BC.

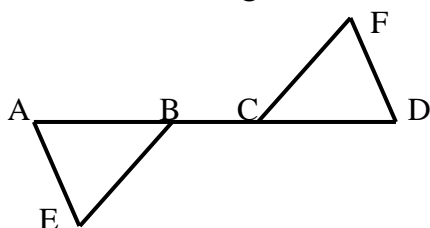
שאלות העוסקות בשלושת משפטי החפיפה יחדיו:



22) במרובע ABCD נתון:

$$AB = BC, AD = CD$$

הוכח:  $\angle A = \angle C$

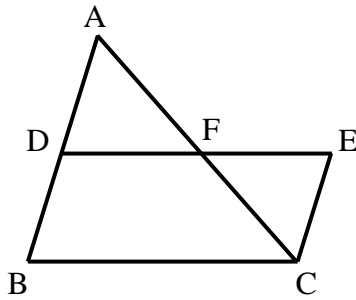


23) הקטע AD הוא קו ישר.

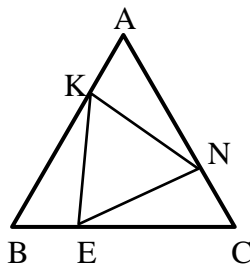
$$AE = DF, AC = BD$$

$$\angle A = \angle D$$

הוכח כי הקטעים BE ו-FC שווים.

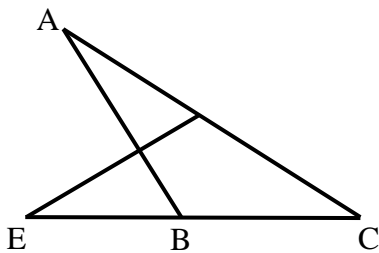


- (24)** באיור שלפניך נתון:  
 הנקודה F היא אמצע הקטע AC.  
 מתקיים:  $\angle BAC = \angle ACE$ .  
 הקטעים BD ו-CE שווים.  
 הוכח את הטענות הבאות:  
 א. F היא אמצע הקטע DE.  
 ב. D היא אמצע הקטע AB.

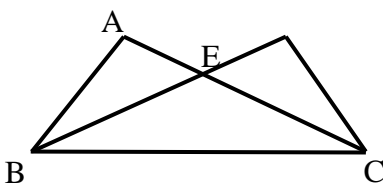


- (25)** המשולש ABC הוא שווה צלעות.  
 נתון:  $AK = BE = CN$ .  
 הוכח כי  $\triangle KEN$  הוא גם משולש שווה צלעות.

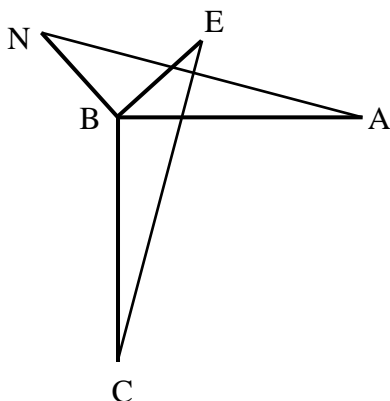
**שאלות העוסקות במשולשים המכסים חלקית זה את זה:**



- (26)** באיור שלפניך נתון:  $AC = CE$ ,  $DC = BC$ .  
 הוכח:  
 א.  $\triangle CDE \cong \triangle CBA$ .  
 ב.  $\angle ADE = \angle ABE$ .



- (27)** באיור שלפניך נתון:  
 $\angle DBC = \angle ACB$ ,  $\angle ABC = \angle DCB$ .  
 הוכח:  $AB = CD$ .



- (28)** באיור שלפניך נתון:  
 $AB = BC$ ,  $BE = BN$   
 $AB \perp BC$ ,  $BE \perp BN$   
 הוכח:  $AN = CE$ .

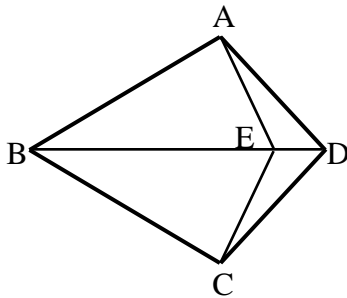
**שאלות העוסקות בשתי חפיפות:**

**(29)** בסרטוט שלפניך נתון כי  $BD$  הוא קו ישר.

מתקיים:  $AD = CD$ ,  $AB = BC$ .

הנקודה  $E$  נמצאת על  $BD$ .

הוכח כי:  $AE = CE$ .



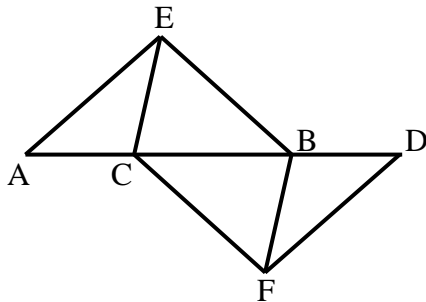
**(30)** בציור שלפניך נתון כי  $AD$  הוא קו ישר. מתקיים:

$\angle AEC = \angle DFB$ ,  $\angle A = \angle D$

וכן  $AE = DF$ . הוכח:

א.  $CE = BF$

ב.  $BE = CF$

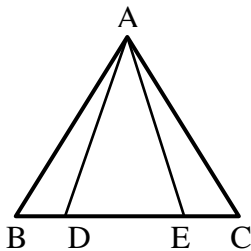


**שאלות העוסקות בחפיפות עם משולש שווה שוקיים:**

**(31)** נתון משולש שווה שוקיים  $\triangle ABC$ ,  $(AB = AC)$ .

מתקיים:  $BD = CE$ .

הוכח:  $AD = AE$ .



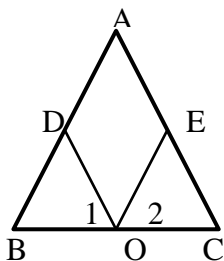
**(32)** בסרטוט שלפניך נתון משולש

שווה שוקיים  $\triangle ABC$ ,  $(AB = AC)$ .

הנקודה  $O$  היא אמצע  $BC$ .

מתקיים:  $\angle O_1 = \angle O_2$ .

הוכח:  $AD = AE$ .

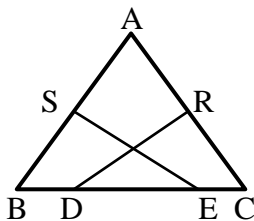


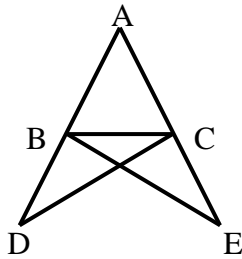
**(33)** במשולש שווה שוקיים  $\triangle ABC$ ,  $(AB = AC)$

הנקודות  $S$  ו- $R$  הן אמצעי השוקיים.

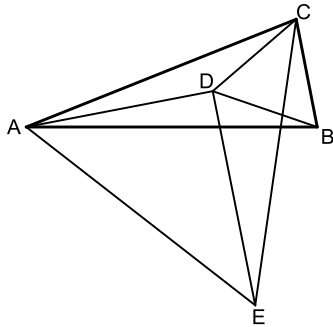
ידוע כי  $BD = CE$ .

הוכח כי:  $SE = RD$ .





34 נתון משולש  $ABC$ . הקטעים  $AD$  ו- $AE$  ישרים ונתון בנוסף כי:  $DC = BE$ ,  $BD = CE$ . הוכח:  $AB = AC$ .



35 המשולש  $ABC$  הוא שווה שוקיים ( $AB = AC$ ). על השוק  $AC$  ועל הבסיס  $BC$  בונים משולשים שווי צלעות  $ACE$  ו- $BCD$ . מחברים את הנקודה  $D$  עם הקדקודים  $A$  ו- $E$ .  
 א. הוכח:  $\triangle ABD \cong \triangle ACD$ .  
 ב. ידוע גם כי:  $DE \parallel BC$ .  
 הוכח:  $\angle ADE = 90^\circ$ .

### תשובות סופיות:

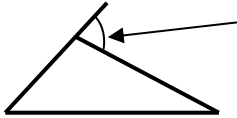
- 14 שאלת הוכחה.
- 15 שאלת הוכחה.
- 16 שאלת הוכחה.
- 17 שאלת הוכחה.
- 18 שאלת הוכחה.
- 19 שאלת הוכחה.
- 20 שאלת הוכחה.
- 21 שאלת הוכחה.
- 22 שאלת הוכחה.
- 23 שאלת הוכחה.
- 24 שאלת הוכחה.
- 25 שאלת הוכחה.
- 26 שאלת הוכחה.
- 27 שאלת הוכחה.
- 28 שאלת הוכחה.
- 29 שאלת הוכחה.
- 30 שאלת הוכחה.
- 31 שאלת הוכחה.
- 32 שאלת הוכחה.
- 33 שאלת הוכחה.
- 34 שאלת הוכחה.
- 35 שאלת הוכחה.

## זווית חיצונית במשולש:

### סיכום כללי:

#### הגדרה:

זווית חיצונית למשולש היא זווית הכלואה בין צלע במשולש להמשך צלע הסמוכה לה.



#### משפט:

זווית חיצונית למשולש שווה לסכום שתי הזוויות הפנימיות שאינן צמודות לה.

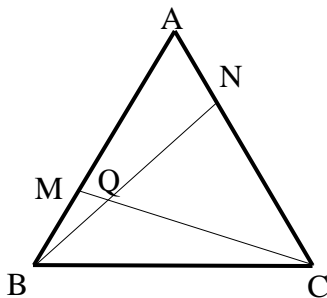
### שאלות:

**36** הוכח את המשפט: "זווית חיצונית למשולש שווה לסכום שתי הזוויות הפנימיות שאינן צמודות לה.

**37** המשולש ABC שבציור הוא משולש שווה צלעות.

נתון:  $AN = BM$ .

הוכח:  $\angle NQC = 60^\circ$ .



### תשובות סופיות:

**36** שאלת הוכחה.

**37** שאלת הוכחה.

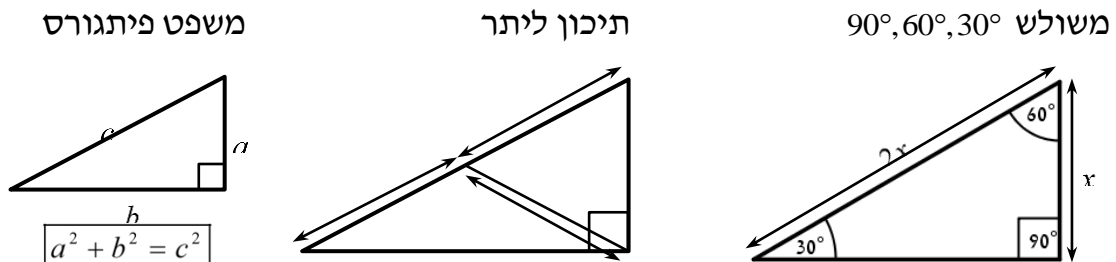
## משולש ישר זווית:

### סיכום כללי:

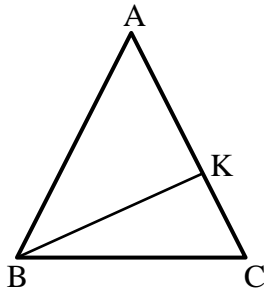
#### משפטים במשולש ישר זווית:

- סכום הזוויות החדות במשולש ישר זווית הוא  $90^\circ$ .
- במשולש שזוויותיו  $90^\circ$ ,  $60^\circ$ ,  $30^\circ$ , הניצב שמול הזווית של ה- $30^\circ$  שווה למחצית היתר. (משפט הפוך ל-2) אם במשולש ישר זווית אחד הניצבים שווה למחצית היתר, אז הזווית שמול ניצב זה היא בת  $30^\circ$ .
- במשולש ישר זווית התיכון ליתר שווה למחצית היתר. (משפט הפוך ל-4) אם במשולש תיכון שווה למחצית הצלע אותה הוא חוצה, אז המשולש ישר זווית (כאשר הזווית ממנה יוצא התיכון היא הזווית הישרה).
- משפט פיתגורס: במשולש ישר זווית סכום ריבועי הניצבים שווה לריבוע היתר. כלומר:  $(\text{יתר})^2 = (\text{ניצב})^2 + (\text{ניצב})^2$ .
- (משפט הפוך למשפט פיתגורס) אם במשולש סכום ריבועי שתי צלעות שווה לריבוע הצלע השלישית, אז המשולש ישר זווית.

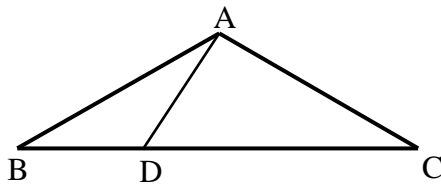
#### איורים:



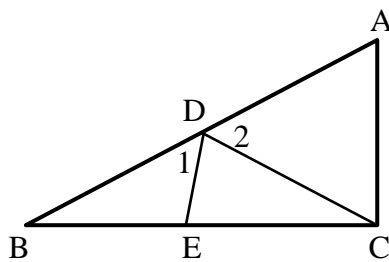
## שאלות:



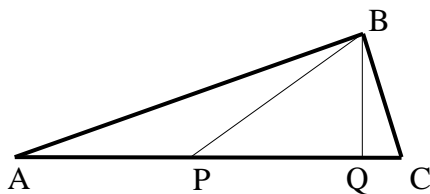
- 38** באיור שלפניך נתון משולש שווה שוקיים  $ABC$  ( $AB = AC$ ).  
 זווית הבסיס:  $\angle C = 75^\circ$   
 וכן:  $16$  ס"מ  $AC =$ . מעבירים גובה  $BK$  לשוק  $AC$ .  
 מצא את אורך הגובה  $BK$ .



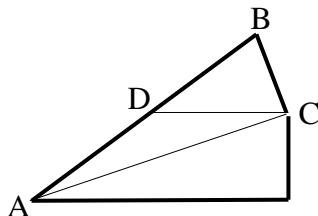
- 39** המשולש  $ABC$  שבציור הוא משולש שווה שוקיים ( $AB = AC$ ).  
 נתון:  $\angle ABD = 30^\circ$ ,  $\angle DAC = 90^\circ$ ,  
 $18$  ס"מ  $BC =$ .  
 חשב את אורכו של הקטע  $BD$ .



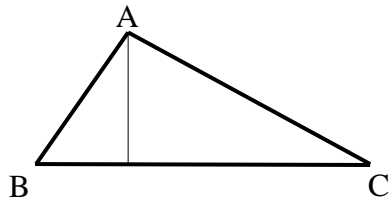
- 40** המשולש  $\triangle ABC$  הוא ישר זווית ( $\angle C = 90^\circ$ ).  
 מעבירים תיכון  $CD$  ליתר  $AB$  במשולש.  
 הנקודה  $E$  נמצאת על  $BC$  כך ש-  $CD = CE$ .  
 ידוע כי:  $\angle CED = 80^\circ$ .  
 מצא את הזוויות:  $\angle D_1$ ,  $\angle D_2$ .



- 41** המשולש  $ABC$  שבציור הוא משולש ישר זווית ( $\angle ABC = 90^\circ$ ).  
 $BQ$  הוא הגובה ליתר  $AC$  ו-  $BP$  הוא התיכון ליתר  $AC$ .  
 נתון:  $BQ = \frac{1}{2} BP$ .  
 חשב את גודלה של הזווית  $C$ .



- 42** המשולש  $BCD$  שבציור הוא משולש שווה שוקיים ( $BD = DC$ ).  
 $AC$  חוצה את הזווית  $\angle BAE$ .  
 נתון:  $DC \parallel AE$ .  
 חשב את גודלה של הזווית  $\angle ACB$ .



- (43) AD הוא גובה במשולש ABC.  
 נתון:  $AB = 15$  ס"מ,  $AC = 20$  ס"מ,  $BC = 25$  ס"מ.
- א. מצא את אורכו של AD ואת שטח המשולש ABC.
- ב. האם המשולש ABC ישר זווית? נמק.

### תשובות סופיות:

- (38) 8 ס"מ.
- (39) 6 ס"מ.
- (40)  $\angle D_1 = 60^\circ$ ,  $\angle D_2 = 40^\circ$
- (41)  $75^\circ$
- (42)  $90^\circ$
- (43) א.  $AD = 12$  ס"מ,  $S_{ABC} = 150$  סמ"ר. ב. כן.

## קטע אמצעים במשולש:

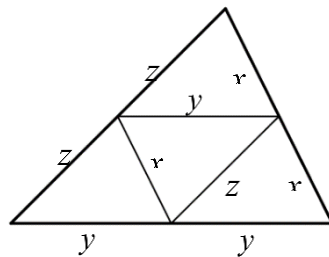
### סיכום כללי:

#### הגדרה:

קטע המחבר אמצעי שתי צלעות במשולש נקרא קטע אמצעים במשולש.

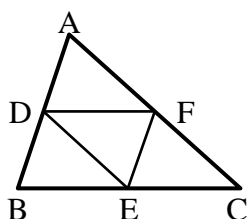
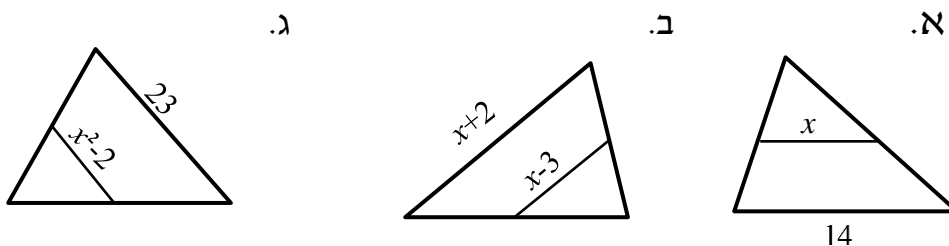
- קטע אמצעים במשולש מקביל לצלע השלישית ושווה למחציתה.
- (משפט הפוך 1): קטע היוצא מאמצע צלע במשולש ומקביל לצלע השלישית חוצה את הצלע השנייה (כלומר הוא קטע אמצעים במשולש).
- (משפט הפוך 2): קטע המחבר שתי צלעות במשולש, מקביל לצלע השלישית ושווה למחציתה הוא קטע אמצעים במשולש.

איור – קטע אמצעים במשולש:

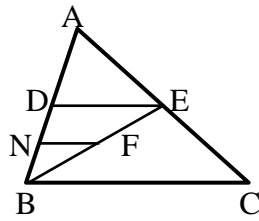


### שאלות:

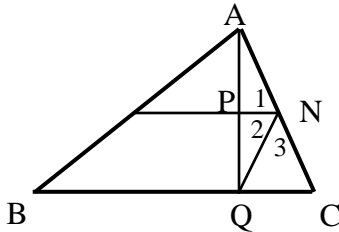
44) לפיך משולשים עם קטע אמצעים בתוכם. מצא את  $x$  בכל אחד מהמקרים:



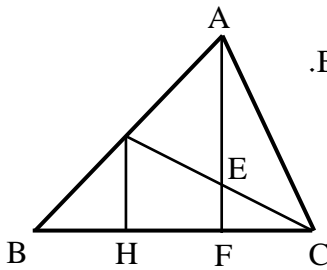
45) הנקודות D, E ו-F הם נקודות האמצע במשולש  $\triangle ABC$ . נתון:  $DE = 9$  ס"מ,  $EF = 12$  ס"מ,  $DF = 10$  ס"מ. חשב את היקף המשולש  $\triangle ABC$ .



- 46) הקטע DE הוא קטע אמצעים במשולש  $\triangle ABC$ .  
 הקטע FN הוא קטע אמצעים במשולש  $\triangle BDE$ .  
 נתון: 3 ס"מ = NF. מצא את אורך הצלע BC.



- 47) הקטע MN הוא קטע אמצעים במשולש  $\triangle ABC$ .  
 AQ הוא גובה לצלע BC.  
 הוכח:  $\sphericalangle N_1 = \sphericalangle N_2$ .



- 48) AF הוא גובה לצלע BC ו-GC הוא תיכון לצלע AB במשולש  $\triangle ABC$ .  
 הקטע GH מאונך לצלע BC.  
 א. הוכח:  $HF = BH$ .  
 ב. נתון בנוסף כי הגובה AF חוצה את התיכון GC ושגודלו של AF הוא 12 ס"מ.  
 חשב את אורך הקטע EF.

### תשובות סופיות:

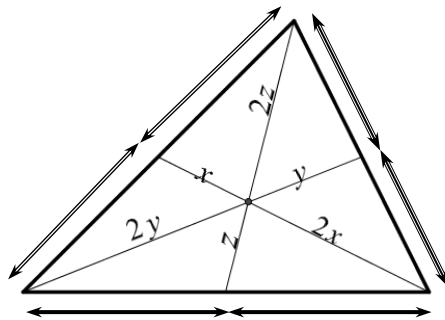
- 44) א.  $x = 7$       ב.  $x = 8$       ג.  $x = \sqrt{13.5}$
- 45) 62 ס"מ.
- 46) 12 ס"מ.
- 47) שאלת הוכחה.
- 48) א. שאלת הוכחה.      ב. 3 ס"מ.

## מפגש תיכונים במשולש:

### סיכום כללי:

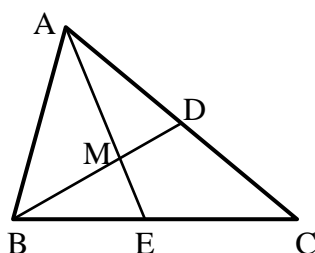
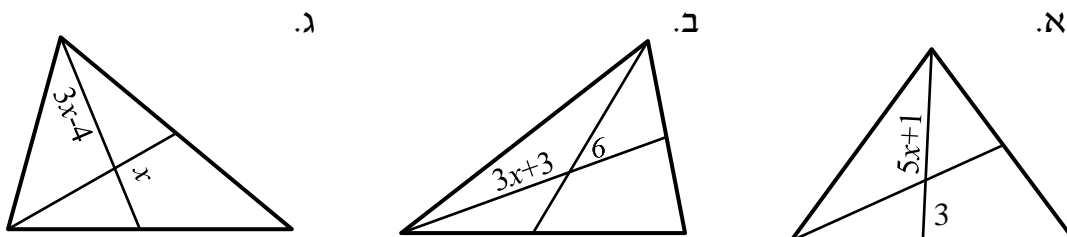
- שלושת התיכונים במשולש נפגשים בנקודה אחת המחלקת כל תיכון ביחס של 2:1 כך שהחלק הקצר קרוב לצלע.
- אם נקודה מחלקת תיכון (אחד) במשולש ביחס של 2:1 כך שהחלק הקצר קרוב לצלע, נקודה זו היא מפגש התיכונים במשולש.
- נקודת מפגש התיכונים במשולש נקראת גם מרכז הכובד של המשולש.

איור – מפגש תיכונים במשולש:



### שאלות:

49) הקטעים שבמשולשים הם תיכונים. מצא את  $x$  בכל אחד מהמקרים הבאים:

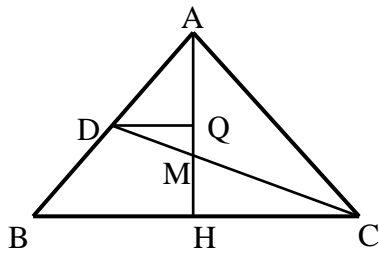


50) הקטעים AE ו-BD הם תיכונים במשולש  $\triangle ABC$

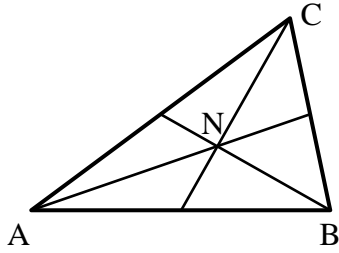
אשר נחתכים בנקודה M.

נתון:  $AD = AM$  וכן:  $AC = 30$  ס"מ.

חשב את AE.



- (51)** המשולש  $\triangle ABC$  שבציור הוא מש"ש ( $AB = AC$ ) שבו  $AH$  הוא הגובה לבסיס  $BC$ .  
 $CD$ , התיכון לשוק  $AB$ ,  
 יוצר זווית של  $30^\circ$  עם הבסיס  $BC$ .  
 נתון:  $BC = 12\sqrt{3}$  ס"מ,  $DQ \parallel BC$ .  
 חשב את אורך הקטע  $MQ$ .



- (52)** במשולש  $\triangle ABC$  נחתכים התיכונים בנקודה  $N$ .  
 נתון:  $\angle CNB = 90^\circ$ .  
 הוכח:  $BC = AN$ .

### תשובות סופיות:

- (49)** א.  $x = 1$     ב.  $x = 3$     ג.  $x = 4$   
**(50)** 22.5 ס"מ.  
**(51)** 3 ס"מ.  
**(52)** שאלת הוכחה.

# קורס מתמטיקה להנדסאי טכנולוגיות מים

פרק 13 - גיאומטריה אוקלידית - מרובעים

תוכן העניינים

191	1. מרובע כללי
193	2. המקבילית
198	3. המלבן
201	4. המעוין
204	5. הריבוע
206	6. הטרפז
212	7. הדלתון
214	8. סיכום משפחת המרובעים

## מרובע כללי:

### סיכום כללי:

**הגדרה:** מרובע הוא מצולע בעל 4 צלעות.

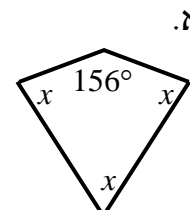
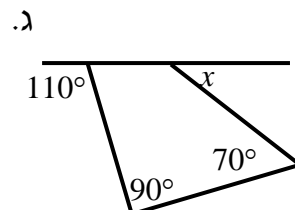
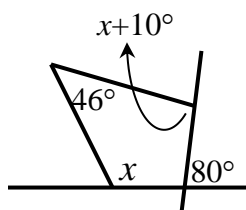
**משפט:** סכום זוויות במרובע הוא  $360^\circ$ .

### שאלות:

1) בסרטוטים שלפניך מופיעים מרובעים שונים.

חלק מהזוויות מסומנות ב- $x$ .

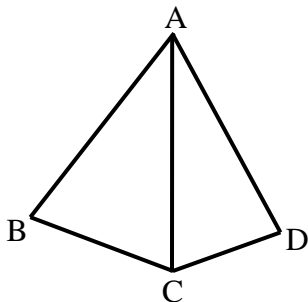
מצא את  $x$  ואת הזוויות של כל מרובע.



2) מצא את זוויות המרובע בכל אחד מהמקרים הבאים:

כל זווית במרובע (פרט לראשונה) גדולה ב- $10^\circ$  מהזווית הקודמת לה.

זוויות המרובע מתייחסות זו לזו כמו: 1: 2: 3: 4.



3) המשולשים ABC ו-ACD שבציור הם משולשים

שווי שוקיים ( $AB = AC = AD$ ).

נתון:  $\angle BAD = 80^\circ$ .

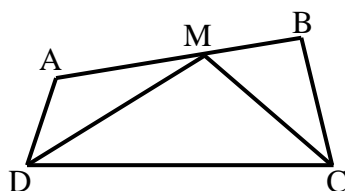
חשב את גודלה של הזווית BCD.

4) בסרטוט שלפניך נתון מרובע ABCD.

CM חוצה את זווית C ו-DM חוצה את זווית D.

ידוע כי:  $CM = DM$ ,  $\angle A = 130^\circ$ ,  $\angle DMC = 110^\circ$ .

מצא את שאר זוויות המרובע ABCD.




**תשובות סופיות:**

- (1) א.  $x = 68^\circ$       ב.  $x = 50^\circ$       ג.  $x = 102^\circ$
- (2) א.  $75^\circ, 85^\circ, 95^\circ, 105^\circ$       ב.  $36^\circ, 72^\circ, 108^\circ, 144^\circ$
- (3)  $140^\circ$
- (4)  $\sphericalangle B = 90^\circ, \sphericalangle C = \sphericalangle D = 70^\circ$

## המקבילית:

### סיכום כללי:

**הגדרה:** מקבילית היא מרובע שבו שני זוגות של צלעות נגדיות מקבילות.



- במקבילית כל שתי צלעות נגדיות שוות זו לזו.
- במקבילית כל שתי זוויות נגדיות שוות.
- במקבילית סכום כל שתי זוויות סמוכות הוא  $180^\circ$ .
- במקבילית האלכסונים חוצים זה את זה.
- היקף מקבילית = סכום הצלעות, שטח מקבילית = צלע · גובה לצלע.

**כדי להוכיח כי מרובע הוא מקבילית נשתמש באחת הדרכים הבאות:**

- מרובע שבו כל זוג צלעות נגדיות מקבילות הוא מקבילית.
- מרובע שבו כל זוג צלעות נגדיות שוות הוא מקבילית.
- מרובע שבו זוג צלעות שוות ומקבילות הוא מקבילית.
- מרובע שבו כל זוג זוויות נגדיות שוות הוא מקבילית.
- מרובע שאלכסוניו חוצים זה את זה הוא מקבילית.

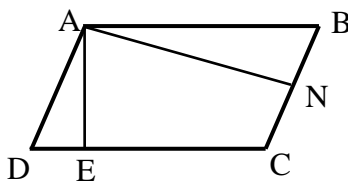
### שאלות:

5) נתונה מקבילית ABCD.

בכל אחד מהסעיפים הבאים הזוויות מיוצגות ע"י תבניות מספר שונות. מצא את זוויות המקבילית בכל מקרה.

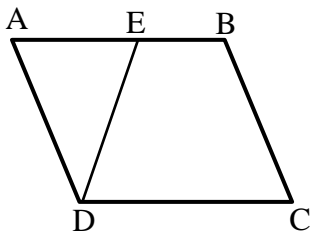


- א.  $\angle A = x$ ,  $\angle B = x - 70^\circ$
- ב.  $\angle B = 3x - 130^\circ$ ,  $\angle D = x + 10^\circ$
- ג.  $\angle A = x + 20^\circ$ ,  $\angle C = 100^\circ - x$

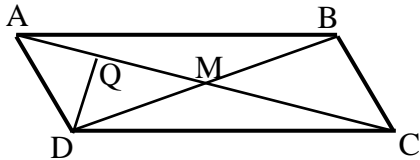


6) המרובע ABCD הוא מקבילית

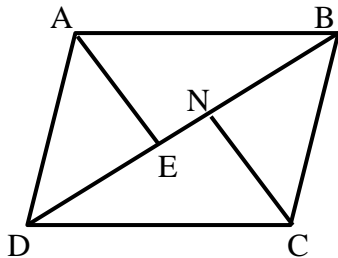
- ובו:  $AE \perp CD$ ,  $AN \perp BC$ .
- הוכח כי:  $\angle DAE = \angle BAN$ .



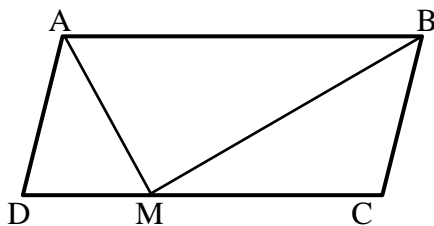
- 7) במקבילית ABCD הנקודה E נמצאת על הצלע AB כך שמתקיים:  $DE = BC$ . הוכח כי:  $\angle EAD = \angle EDC$ .



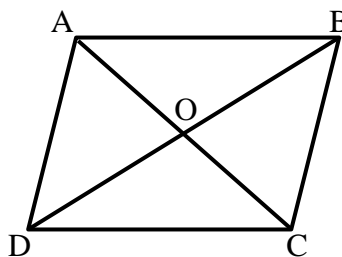
- 8) נתונה מקבילית ABCD שאלכסוניה נפגשים בנקודה M. נתון:  $AC = 20$  ס"מ,  $BC = \frac{1}{2}BD$  ו-  $DQ \perp AC$ . חשב את אורך הקטע AQ.



- 9) הוכח כי במקבילית הקדקודים הנגדיים נמצאים במרחקים שווים מאלכסון המקבילית שאינו עובר דרכם, כלומר הוכח:  $AE = CN$ .

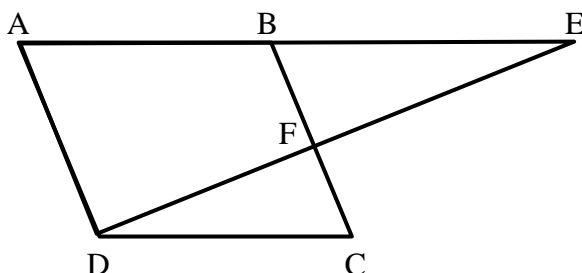


- 10) במקבילית ABCD הקטעים AM ו-BM הם חוצי הזוויות של A ו-B בהתאמה אשר נפגשים בנקודה M שעל הצלע DC. א. הוכח כי:  $AB = 2BC$ . ב. הוכח כי המשולש AMB הוא ישר זווית.



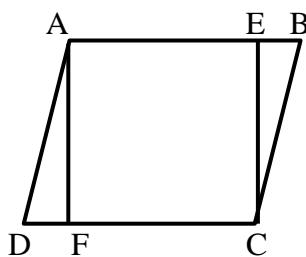
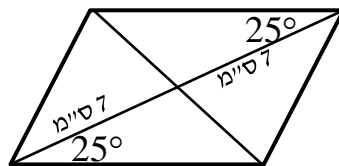
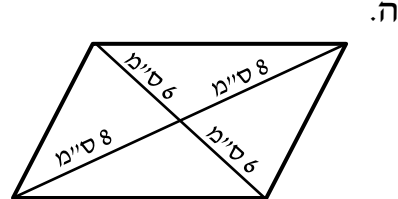
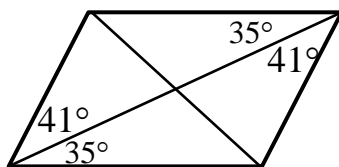
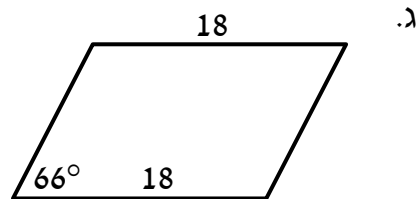
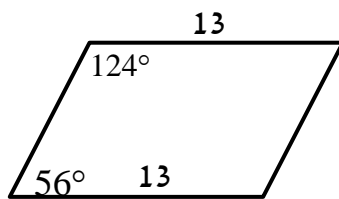
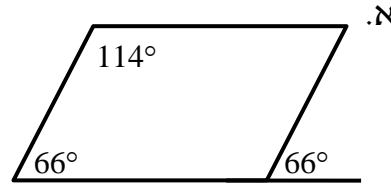
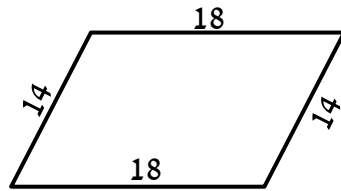
- 11) המרובע ABCD הוא מקבילית. O – פגישת האלכסונים. נתון:  $AO = x + 1$ ,  $BO = x + 8$ ,  $DO = 3x - 10$ . מצא את אורכי האלכסונים AC ו-BD.

- 12) נתונה מקבילית ABCD ובה:  $\angle ADC = 120^\circ$ ,  $\angle BEF = \frac{1}{2} \angle EAD$ .

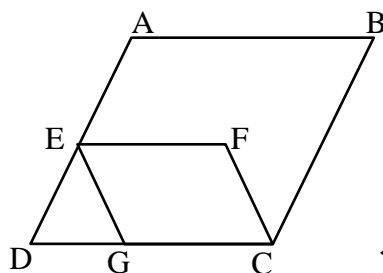


הוכח כי:  $BC \perp ED$ .

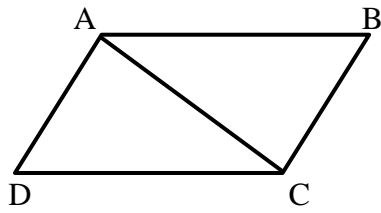
13) בסרטטים שלפניך מופיעים מרובעים שונים. קבע אלו מהם הם מקביליות וציין מדוע.



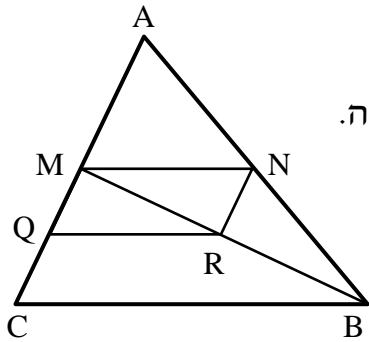
14) במקבילית ABCD הנקודות E ו-F נמצאות על הצלעות AB ו-CD בהתאמה. נתון:  $\angle DAF = \angle BCE$ . הוכח כי המרובע AECF הוא מקבילית.



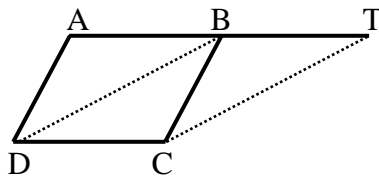
15) במקבילית ABCD הנקודות E ו-G נמצאות על הצלעות AD ו-BC בהתאמה כך שהמשולש DEG הוא שווה צלעות. הנקודה F נמצאת בתוך המקבילית כך שהקטע EF מקביל לצלע AB. א. הוכח:  $\angle DAB = \angle EGC$ . ב. נתון:  $\angle GCF = \angle ABC$ . הוכח כי EFCG מקבילית.



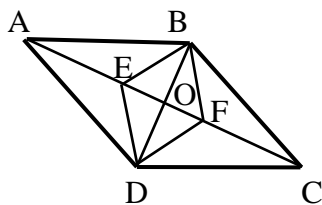
- 16) במרובע ABCD נתון כי הצלעות AB ו-DC שוות. כמו כן:  $AD \perp AC$ ,  $BC \perp AC$ . הוכח כי המרובע ABCD הוא מקבילית.



- 17) נתון משולש ABC ובו הקטע MN הוא קטע אמצעים. הנקודות Q ו-R הן אמצעי הקטעים MC ו-BM בהתאמה. א. הוכח כי המרובע MNRQ הוא מקבילית. ב. ידוע כי הקטע AN שווה לקטע QR. איזה סוג משולש הוא AMB? נמק.



- 18) את הצלע AB במקבילית ABCD האריכו כאורכה עד לנקודה T. הוכח: BTCD מקבילית. הערה: בסרטון השאלה מוצגת ללא הסרטוט הנתון.



- 19) הנקודה O היא מפגש אלכסוני המקבילית ABCD. E ו-F הן נקודות על האלכסון AC. נתון:  $AE = FC$ . הוכח כי EBFD הוא מקבילית.

### תשובות סופיות:

- א.  $125^\circ, 55^\circ$  (5)  
 ב.  $100^\circ, 80^\circ$  (6) שאלת הוכחה.  
 ג.  $120^\circ, 60^\circ$  (7) שאלת הוכחה.  
 (8) 5 ס"מ. שאלת הוכחה.  
 (9) שאלת הוכחה.  
 (10) שאלת הוכחה.  
 (11)  $BD = 34$  ס"מ,  $AC = 20$  ס"מ. שאלת הוכחה.  
 (12) שאלת הוכחה.  
 (13) מקביליות: א', ב', ד', ה', ו', ח' אינן מקביליות: ג', ז'.  
 (14) שאלת הוכחה.  
 (15) שאלת הוכחה.  
 (16) שאלת הוכחה.  
 (17) שאלת הוכחה.  
 (18) שאלת הוכחה.  
 (19) שאלת הוכחה.

## המלבן:

### סיכום כללי:

**הגדרה:** מלבן הוא מרובע שכל זוויותיו ישרות.  
(מסקנה: מלבן הוא סוג של מקבילית).

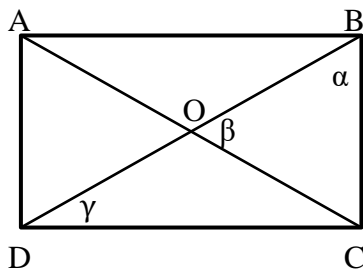
### תכונות המלבן (בנוסף לתכונות המקבילית):

- ארבע זוויות המלבן שוות והן זוויות ישרות.
- האלכסונים במלבן שווים זה לזה
- היקף מלבן סכום הצלעות, שטח מלבן צלע גובה לצלע.

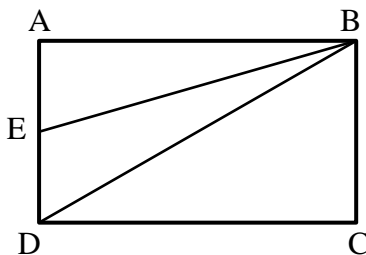
### כדי להוכיח כי מרובע הוא מלבן נשתמש באחת הדרכים הבאות:

- מרובע שבו שלוש זוויות ישרות הוא מלבן.
- מקבילית שבה זווית ישרה היא מלבן.
- מקבילית שבה האלכסונים שווים היא מלבן.

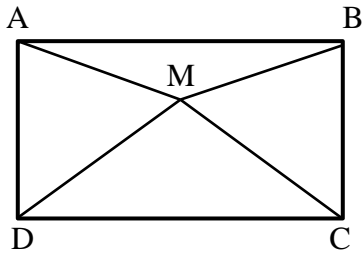
### שאלות:



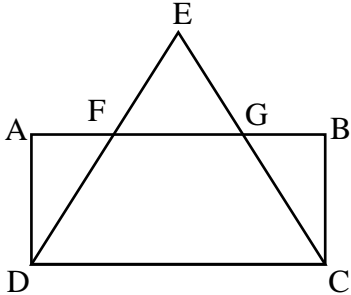
- 20** המרובע ABCD הוא מלבן.  
מעבירים את האלכסונים AC ו-BD.  
חשב את הזוויות  $\alpha$ ,  $\beta$  ו- $\gamma$  במקרים הבאים:
- א.  $\beta$  קטנה ב- $15^\circ$  מ- $\alpha$ .
  - ב.  $\alpha = 2\gamma$ .
  - ג.  $\gamma = 28^\circ$ .



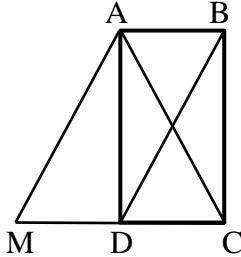
- 21** במלבן ABCD הנקודה E נמצאת על הצלע AD.  
נתון:  $\angle AEB = 70^\circ$ ,  $BD = 2BC$ .  
חשב את גודלה של הזווית EBD.



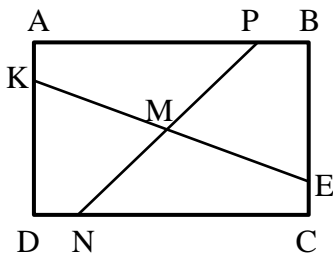
**(22)** נתון מלבן ABCD שבו  $DM = MC$ .  
הוכח:  $\angle MAB = \angle MBA$ .



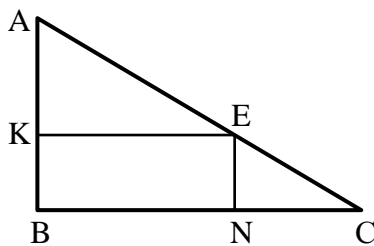
**(23)** המרובע ABCD הוא מלבן.  
המשכי הקטעים DF ו-CG נפגשים  
בנקודה E.  
נתון:  $EF = EG$ .  
הוכח:  $FD = GC$ .



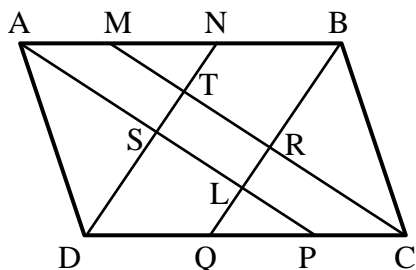
**(24)** המרובע ABCD הוא מלבן.  
המרובע ABDM הוא מקבילית.  
הוכח כי המשולש ACM הוא שווה שוקיים.



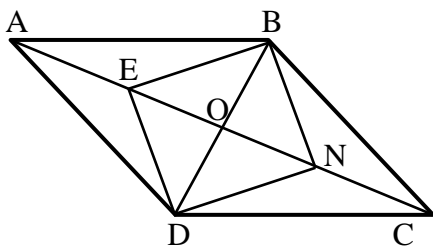
**(25)** מרובע ABCD הוא מלבן.  
נתון:  $AP = CN$ ,  $AK = CE$ .  
הוכח:  $KM = EM$ ,  $PM = NM$ .



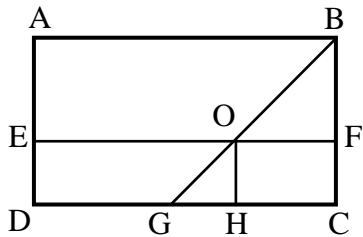
**(26)**  $\triangle ABC$  הוא משולש ישר זווית ( $\angle B = 90^\circ$ ).  
המרובע KENB חסום במשולש זה.  
נתון כי:  $\angle AEK = \angle C$ ,  $\angle NEC = \angle A$ .  
הוכח כי המרובע KENB הוא מלבן.



**(27)** נתונה מקבילית ABCD  
ובה  $DN$ ,  $CM$ ,  $BQ$ ,  $AP$   
הם חוצי הזוויות  $\angle A$ ,  $\angle B$ ,  $\angle C$ , ו- $\angle D$   
בהתאמה.  
הוכח:  $TRLS$  מלבן.



- (28)** מרובע ABCD הוא מקבילית.  
 מעבירים את האלכסונים AC ו-BD  
 אשר נחתכים בנקודה O.  
 נתון:  $2BD = AC$ .  
 E – אמצע AO. N – אמצע CO.  
 הוכח כי המרובע BNDE הוא מלבן.



- (29)** במלבן ABCD נתון:  
 $OH \perp DC$ ,  $\angle ABO = \angle BOF$   
 הוכח: EOHD הוא מלבן.

### תשובות סופיות:

ב.  $\alpha = \beta = 60^\circ$ ,  $\gamma = 30^\circ$

**(20)** א.  $\alpha = 55^\circ$ ,  $\beta = 70^\circ$ ,  $\gamma = 35^\circ$

ג.  $\alpha = 62^\circ$ ,  $\beta = 56^\circ$

**(21)**  $10^\circ$

**(22)** שאלת הוכחה.

**(23)** שאלת הוכחה.

**(24)** שאלת הוכחה.

**(25)** שאלת הוכחה.

**(26)** שאלת הוכחה.

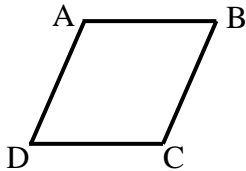
**(27)** שאלת הוכחה.

**(28)** שאלת הוכחה.

**(29)** שאלת הוכחה.

## המעוין:

### סיכום כללי:



**הגדרה:** מעוין הוא מרובע שכל צלעותיו שוות.  
 (מסקנה: מעוין הוא סוג של מקבילית).

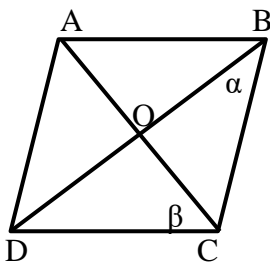
### תכונות המעוין (בנוסף לתכונות המקבילית):

- במעוין כל הצלעות שוות.
- במעוין האלכסונים מאונכים זה לזה.
- במעוין האלכסונים הם חוצי זוויות.
- היקף מעוין = צלע  $\cdot 4$ , שטח מעוין = צלע  $\cdot$  גובה לצלע =  $(\text{אלכסון} \cdot \text{אלכסון}) / 2$ .

### כדי להוכיח כי מרובע הוא מעוין נשתמש באחת הדרכים הבאות:

- מרובע שבו כל הצלעות שוות הוא מעוין.
- מקבילית שבה שתי צלעות סמוכות שוות היא מעוין.
- מקבילית שבה האלכסונים מאונכים זה לזה היא מעוין.
- מקבילית שבה אלכסון חוצה זווית היא מעוין (מספיק אחד).

### שאלות:



**30** המרובע ABCD הוא מעוין.

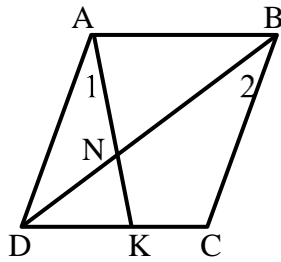
חשב בכל אחד מהמקרים הבאים את  $\alpha$  ו- $\beta$ .

א.  $\angle A = 138^\circ$ .

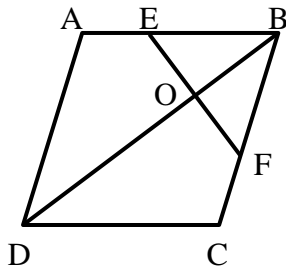
ב.  $\beta = 3.5\alpha$ .

ג.  $\beta = \alpha + 20^\circ$ .

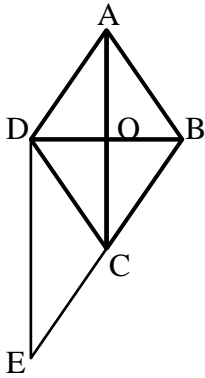
ד.  $\angle B = \beta$ .



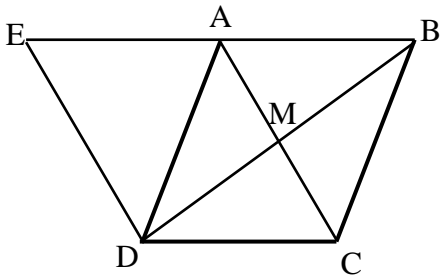
- 31** המרובע ABCD הוא מעוין.  
מעבירים את האלכסון BD ואת הקטע AK  
אשר נחתכים בנקודה N.  
ידוע כי:  $\angle A_1 = \angle B_2$ .  
א. הוכח כי המשולש ADN הוא שווה שוקיים.  
ב. הוכח כי:  $\angle AND = \angle C$ .



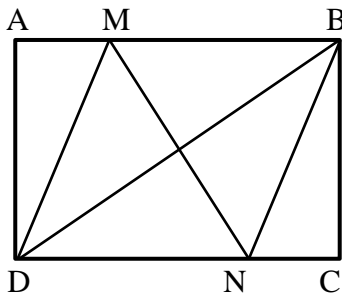
- 32** מעוין ABCD הנקודות E ו-F  
נמצאות על הצלעות AB ו-BC בהתאמה.  
נתון:  $\angle DCB = 120^\circ$ ,  $EF \perp BD$ .  
הוכח כי משולש EBF הוא שווה צלעות.



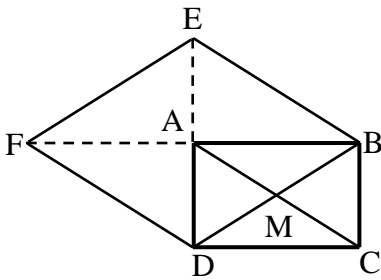
- 33** נתון מעוין ABCD.  
הנקודה E נמצאת על המשך הצלע BC.  
נתון:  $\angle CDE = \angle BCA$ .  
הוכח כי המשולש BDE הוא ישר זווית.



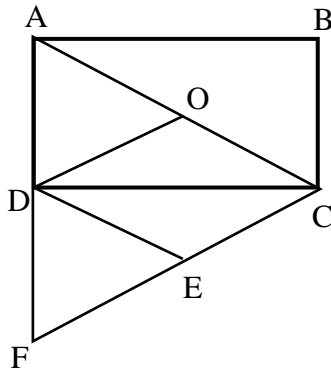
- 34** נתון מעוין ABCD שאלכסונו נפגשים בנקודה M.  
האריכו את הצלע AB עד לנקודה E  
כך שמתקיים:  $DE \perp BD$ .  
הוכח:  $AD = AE$ .



- 35** במלבן ABCD מעבירים את האלכסון BD.  
הנקודות M ו-N נמצאות על הצלעות AB  
ו-DC בהתאמה.  
נתון:  $AM = CN$  ו- $DM = DN$ .  
הוכח כי הקטע MN חוצה את  
הזוויות BMD ו-BND.



**36** נתון מלבן ABCD שאלכסונו נפגשים בנקודה M. האריכו את הצלע AB כאורכה עד לנקודה F ואת הצלע AD כאורכה עד לנקודה E כמתואר בשרטוט. הוכח: המרובע EBDF הוא מעוין.



**37** ABCD הוא מלבן שאלכסונו נחתכים בנקודה O. הנקודה F נמצאת על המשך הצלע AD כך שמתקיים:  $AD = DF$ . נתון:  $FE = CE$ . הוכח כי DOCE הוא מעוין.

**תשובות סופיות:**

ב.  $\alpha = 20^\circ, \beta = 70^\circ$

ד.  $\alpha = 30^\circ, \beta = 60^\circ$

**30** א.  $\alpha = 21^\circ, \beta = 69^\circ$

ג.  $\alpha = 35^\circ, \beta = 55^\circ$

**31** שאלת הוכחה.

**32** שאלת הוכחה.

**33** שאלת הוכחה.

**34** שאלת הוכחה.

**35** שאלת הוכחה.

**36** שאלת הוכחה.

**37** שאלת הוכחה.

## הריבוע:

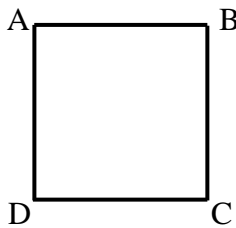
### סיכום כללי:

**הגדרה:** ריבוע הוא מרובע שכל צלעותיו שוות וכל זוויותיו שוות.

(מסקנה: ריבוע הוא סוג של מקבילית, סוג של מלבן וסוג של מעוין).

מכאן, שבנוסף לתכונות שבהגדרת הריבוע מתקיים כי אלכסונו הריבוע חוצים זה את זה, שווים זה לזה, מאונכים זה לזה וחוצים את זוויות הריבוע.

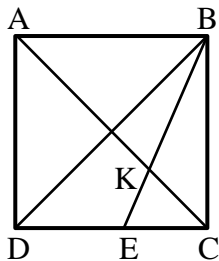
היקף ריבוע = צלע  $\cdot 4$ , שטח ריבוע =  $(צלע)^2 = (אלכסון)^2 / 2$



**כדי להוכיח כי מרובע הוא ריבוע נשתמש באחת הדרכים הבאות:**

- מלבן שבו האלכסונים מאונכים הוא ריבוע.
- מלבן שבו אלכסון חוצה זווית הוא ריבוע.
- מלבן שבו שתי צלעות סמוכות שוות הוא ריבוע.
- מעוין שבו האלכסונים שווים הוא ריבוע.
- מעוין שבו זווית ישרה הוא ריבוע.

### שאלות:

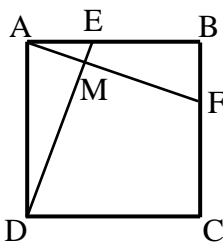


**38** המרובע ABCD הוא ריבוע.

מעבירים את האלכסונים AC ו-BD.

BE חוצה זווית DBC וחותך את AC בנקודה K.

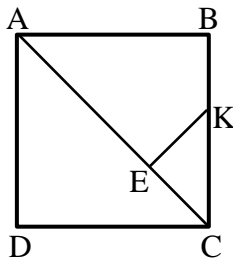
הוכח:  $CE = CK$ .



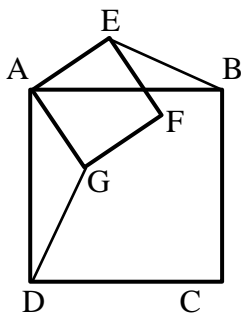
**39** בריבוע ABCD מעבירים את הקטעים AF ו-DE.

נתון כי  $AE = BF$ .

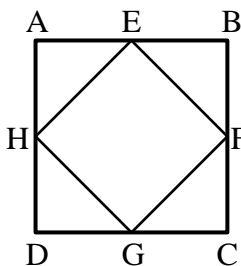
הוכח:  $DE \perp AF$ .



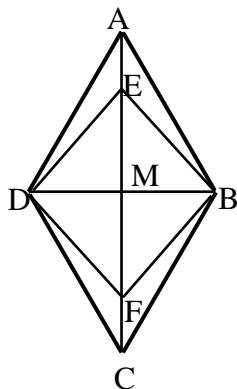
- 40** המרובע ABCD הוא ריבוע.  
 מעבירים את האלכסון AC.  
 מהנקודה E שעל האלכסון מעבירים את הקטע KE אשר מאונך לאלכסון.  
 נתון:  $AE = AB$ .  
 הוכח כי:  $CE = KE = BK$ .



- 41** המרובעים ABCD ו-AEFG הם ריבועים.  
 הוכח:  $BE = DG$ .



- 42** הנקודות E, F, G, H הן אמצעי צלעות הריבוע ABCD.  
 הוכח כי EFGH הוא ריבוע.



- 43** נתון מעוין ABCD שאלכסונו נפגשים בנקודה M.  
 נתון:  $\angle EBA = 15^\circ$ ,  $MB = \frac{1}{2} AB$ ,  $AE = FC$ .  
 הוכח: המרובע EBFM הוא ריבוע.

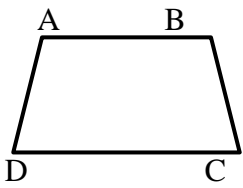
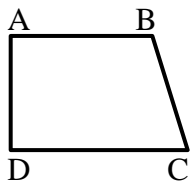
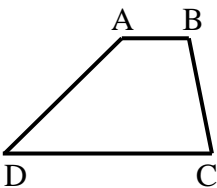
### תשובות סופיות:

- 38** שאלת הוכחה.  
**39** שאלת הוכחה.  
**40** שאלת הוכחה.  
**41** שאלת הוכחה.  
**42** שאלת הוכחה.  
**43** שאלת הוכחה.

## הטרפז:

### סיכום כללי:

**הגדרה:** טרפז הוא מרובע שבו זוג אחד בלבד של צלעות נגדיות מקבילות.  
 היקף טרפז = סכום הצלעות, שטח טרפז =  $(\text{גובה} \cdot \text{סכום הבסיסים}) / 2$ .

טרפז שווה שוקיים	טרפז ישר זווית	טרפז כללי	סוג הטרפז
			איור מתאים

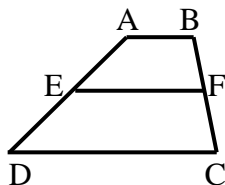
### משפטים הנוגעים לטרפז שווה שוקיים:

- בטרפז שווה שוקיים הזוויות שליד אותו בסיס שוות זו לזו.
- (משפט הפוך) טרפז שבו הזוויות שליד אותו בסיס שוות זו לזו הוא טרפז שווה שוקיים.
- בטרפז שווה שוקיים האלכסונים שווים זה לזה.
- (משפט הפוך) טרפז שבו האלכסונים שווים זה לזה הוא טרפז שווה שוקיים.

### קטע אמצעים בטרפז:

**הגדרה:** קטע אמצעים בטרפז הוא קטע המחבר את אמצעי השוקיים בטרפז.

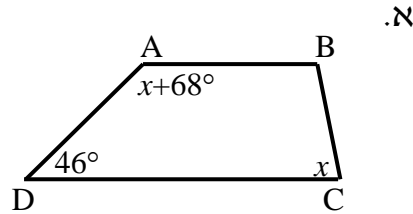
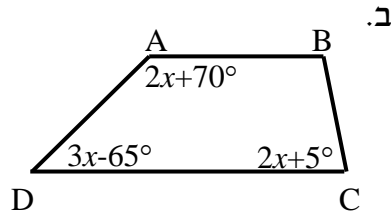
- קטע אמצעים בטרפז מקביל לבסיסים ושווה למחצית סכומם.



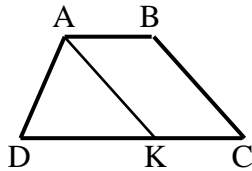
- (משפט הפוך) קטע היוצא מאמצע שוק אחת בטרפז ומקביל לבסיסים, חוצה את השוק השנייה (כלומר הוא קטע אמצעים בטרפז).

**שאלות:**

**44** בסרטוטים שלפניך נתונים טרפזים כלליים  $(AB \parallel CD)$ . מצא את  $x$  ואת זוויות הטרפז בכל מקרה.

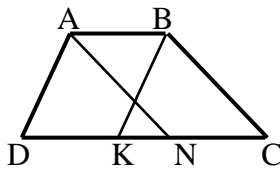


**45** המרובע ABCD הוא טרפז  $(AB \parallel CD)$ .



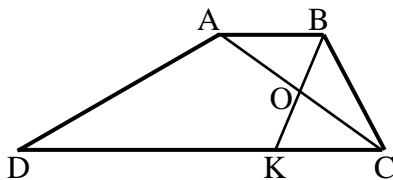
מעבירים את הקטע AK.  
נתון:  $AK = DK$ ,  $AK \parallel BC$ ,  
 $DC = 14$  ס"מ,  $AB = 6$  ס"מ.  
חשב את אורך השוק BC.

**46** המרובע ABCD הוא טרפז  $(AB \parallel CD)$ .



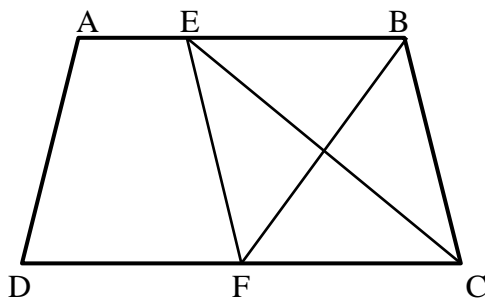
נתון כי:  $AN \parallel BC$ ,  $AD \parallel BK$ .  
הוכח כי:  $DK = CN$ .

**47** המרובע ABCD הוא טרפז  $(AB \parallel CD)$ .

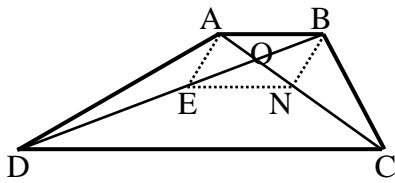


מעבירים את האלכסון AC ואת הקטע BK אשר חוצים זה את זה בנקודה O.  
ידוע כי:  $\angle C = 60^\circ$ ,  $\angle D = 30^\circ$ .  
א. חשב את אורך DC, הבסיס הגדול,  
אם ידוע כי:  $AB = 7$  ס"מ,  $BC = 9$  ס"מ.  
ב. הוכח כי אם  $AB = BC$  אז:  $DC = 3AB$ .

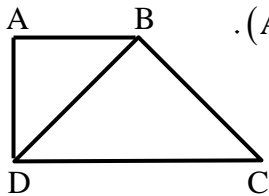
**48** נתון טרפז ABCD  $(AB \parallel CD)$  ובו



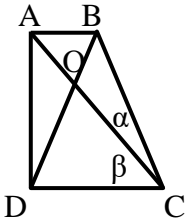
הקטעים CE ו-BF חוצים את זוויות הקדקודים C ו-B בהתאמה. הוכח:  
א.  $BF \perp CE$ .  
ב. המשולש EBC הוא שווה שוקיים.  
ג. המרובע EBCF הוא מעויך.



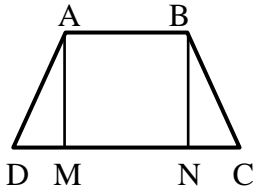
- (49) מרובע ABCD הוא טרפז  $(AB \parallel CD)$ .  
 O - היא נקודת פגישת האלכסונים.  
 נתון:  $BO = EO$ ,  $AO = NO$ .  
 הוכח כי המרובע ENCD הוא טרפז.



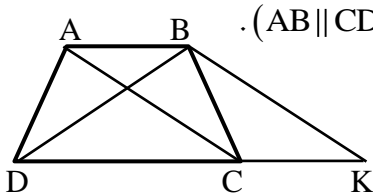
- (50) המרובע ABCD הוא טרפז ישר זווית  $(AB \parallel CD, \angle D = 90^\circ)$ .  
 האלכסון BD חוצה את זווית D  
 ונתון בנוסף כי:  $BD = BC$  וכי:  $AD = 15$  ס"מ.  
 חשב את אורכי בסיסי הטרפז.



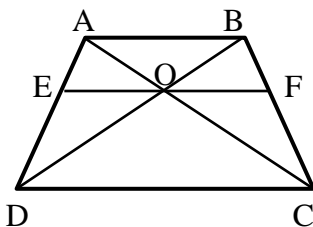
- (51) המרובע ABCD הוא טרפז ישר זווית  
 $(AB \parallel CD, AD \perp DC)$ .  
 נתון כי:  $\beta = 2\alpha$ ,  $\angle DOC = 80^\circ$  ו- $BD = BC$ .  
 חשב את זוויות הטרפז.



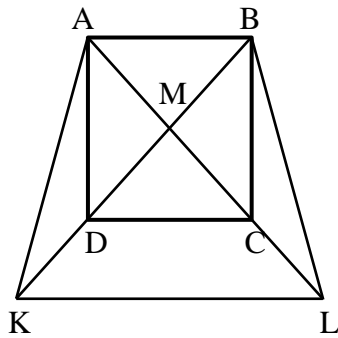
- (52) מרובע ABCD הוא טרפז שווה  
 $(AB \parallel CD, AD = BC)$  שוקיים  
 נתון כי:  $AM \perp DC$ ,  $BN \perp DC$ .  
 הוכח כי:  $DM = CN$ .



- (53) מרובע ABCD הוא טרפז שווה שוקיים  $(AB \parallel CD, AD = BC)$ .  
 דרך הנקודה B מעבירים מקביל ל-AC הפוגש את המשך הבסיס DC בנקודה K.  
 הוכח כי משולש BDK הוא שווה שוקיים.



- (54) מרובע ABCD הוא טרפז שווה שוקיים  $(AB \parallel CD, AD = BC)$ .  
 O היא פגישת האלכסונים.  
 נתון כי:  $EF \parallel DC$  כאשר EF עובר דרך O.  
 הוכח:  
 א.  $\angle BOF = \angle COF$ .  
 ב.  $EO = FO$ .



55 נתון ריבוע ABCD.

הנקודה M היא מפגש האלכסונים AC ו-BD. ממשיכים את האלכסונים ויוצרים את הטרפז השווה שוקיים ABLK.

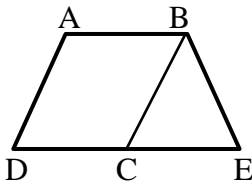
ידוע גם כי DC הוא קטע אמצעים משולש KML. א. קבע אלו מהטענות הבאות ניתן להוכיח:

- i. המשולש KML הוא ישר זווית ושווה שוקיים.
- ii. הקטעים BK ו-BL מאונכים זה לזה.
- iii. המרובע DCLK הוא טרפז שווה שוקיים.
- iv. הקטעים DK ו-AD שווים זה לזה.

ב. הוכח כי:  $3DK = AL$ .

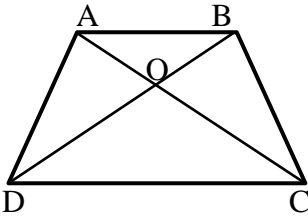
ג. נתון כי  $AD = 8\sqrt{2}$  ס"מ.

חשב את היקף הטרפז ABLK.



56 המרובע ABCD הוא מקבילית.

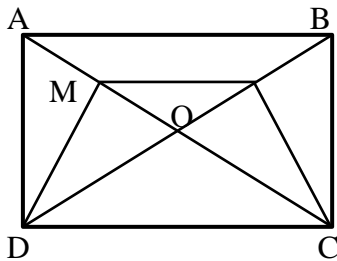
הקטע DE הוא קו ישר ונתון כי:  $\angle A + \angle E = 180^\circ$ . הוכח כי המרובע ABED הוא טרפז שווה שוקיים.



57 במרובע ABCD הנקודה O היא פגישת האלכסונים.

נתון כי:  $CO = DO$ ,  $AO = BO$ .

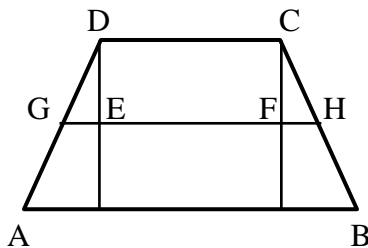
הוכח כי מרובע ABCD הוא טרפז שווה שוקיים.



58 נתון מלבן ABCD שאלכסונו נפגשים בנקודה O.

נתון:  $MN \parallel DC$ .

הוכח: טרפז DMNC שווה שוקיים.

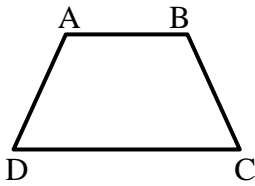


59 בטרפז ABCD ( $AB \parallel CD$ ) הורדו מקצות הבסיס הקטן אנכים לבסיס הגדול.

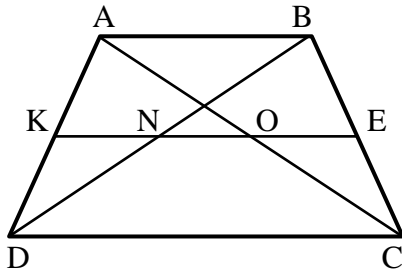
קטע האמצעים GH חותך גבהים אלה בנקודות E ו-F.

נתון:  $GE = 3$  ס"מ,  $EF = 12$  ס"מ,  $FH = 2$  ס"מ.

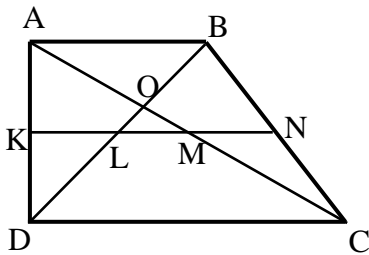
חשב את בסיסי הטרפז.



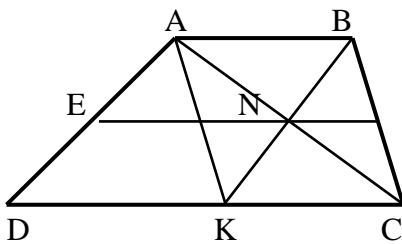
60) סכום כל אורכי הצלעות של טרפז שווה שוקיים הוא 54 ס"מ.  
אורך קטע האמצעים הוא 13 ס"מ.  
מצא את אורך שוק הטרפז.



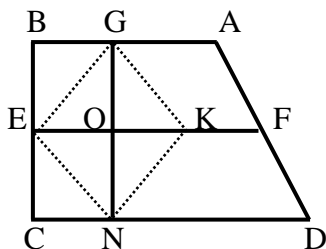
61) המרובע ABCD הוא טרפז ( $AB \parallel CD$ ).  
KE הוא קטע אמצעים בטרפז, החותך את אלכסוני הטרפז בנקודות N ו-O.  
א. הוכח כי:  $KN = EO$ .  
ב. בטרפז הנ"ל נתון:  
 $AB = 14$  ס"מ,  $DC = 26$  ס"מ.  
חשב את אורכי הקטעים KN, NO ו-EO.  
ג. בטרפז הנ"ל נתון:  $KE = 13$  ס"מ,  
 $NO = 3$  ס"מ. חשב את בסיסי הטרפז.



62) KN הוא קטע אמצעים בטרפז ישר זווית ABCD שאלכסוניו ( $AB \parallel CD, AD \perp AB$ ) נפגשים בנקודה O.  
נתון:  $AD = 12$  ס"מ,  $DC = 2AB$ ,  $\angle ADB = 45^\circ$ .  
חשב את אורך הקטע LM והוכח כי:  $KL = LM = MN$ .



63) מרובע ABCD הוא טרפז ( $AB \parallel CD$ ).  
EF הוא קטע אמצעים. AC ו-BK נפגשים בנקודה N הנמצאת על EF.  
א. הוכח כי מרובע ABCK הוא מקבילית.  
ב. נתון:  $EF = 13$  ס"מ,  $EN = 9$  ס"מ.  
חשב את בסיסי הטרפז AB ו-DC ואת הקטע DK.



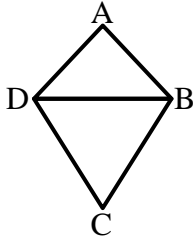
64) המרובע ABCD הוא טרפז ישר זווית ( $AB \parallel CD, \angle B = 90^\circ$ ).  
EF קטע אמצעים בטרפז.  
G ו-N הן נקודות על AB ו-DC בהתאמה המקיימות:  $GN \perp DC$ .  
בנוסף נתון:  $\angle D < 90^\circ, KO = EO$ .  
הוכח כי מרובע GENK הוא מעוין.

## תשובות סופיות:

- (44) א.  $x = 66^\circ$ ;  $46^\circ, 134^\circ, 66^\circ, 114^\circ$     ב.  $x = 35^\circ$ ;  $40^\circ, 140^\circ, 75^\circ, 105^\circ$
- (45) 8 ס"מ.
- (46) שאלת הוכחה.
- (47) א. 25 ס"מ.
- (48) שאלת הוכחה.
- (49) שאלת הוכחה.
- (50) א. 15 ס"מ, 30 ס"מ.    ב. שאלת הוכחה.
- (51)  $90^\circ, 90^\circ, 60^\circ, 120^\circ$
- (52) שאלת הוכחה.
- (53) שאלת הוכחה.
- (54) שאלת הוכחה.
- (55) א. ניתן להוכיח את טענות: i, iii.    ב. שאלת הוכחה.
- ג.  $P_{ABLK} = 16\sqrt{5} + 24\sqrt{2} \approx 69.71$  ס"מ
- (56) שאלת הוכחה.
- (57) שאלת הוכחה.
- (58) שאלת הוכחה.
- (59) 22 ס"מ ו-12 ס"מ.
- (60) 14 ס"מ.
- (61) א. שאלת הוכחה.    ב.  $NO = 6$  ס"מ,  $KN = EO = 7$  ס"מ
- ג.  $DC = 16$  ס"מ,  $AB = 10$  ס"מ
- (62) 6 ס"מ.
- (63) 8 ס"מ,  $AB = 18$  ס"מ,  $DC = 10$  ס"מ,  $DK = 10$  ס"מ.
- (64) שאלת הוכחה.

## הדלתון:

### סיכום כללי:



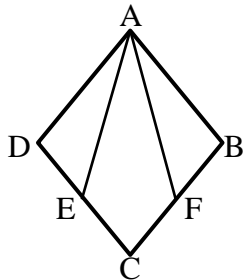
#### הגדרה:

דלתון הוא מרובע שבו שני זוגות של צלעות סמוכות שוות. (מסקנה: דלתון הוא מרובע שניתן לפרק לשני משולשים שווים שוקיים בעלי בסיס משותף).

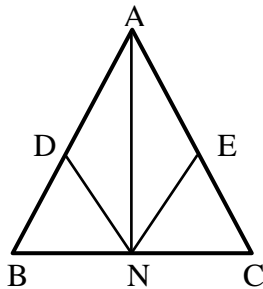
### תכונות האלכסונים בדלתון:

- האלכסון הראשי בדלתון חוצה את זוויות הראש, חוצה את האלכסון המשני ומאונך לו.
- האלכסון הראשי אינו בהכרח גדול מהאלכסון המשני.
- היקף דלתון = סכום הצלעות, שטח דלתון =  $(\text{אלכסון} \cdot \text{אלכסון}) / 2$ .

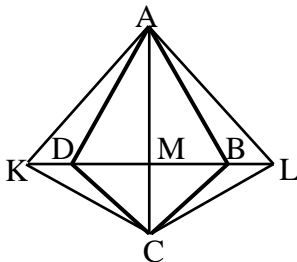
### שאלות:



**65** נתון מעוין ABCD. הנקודות E ו-F נמצאות על הצלעות DC ב-BC בהתאמה כך שהמרובע AFCE הוא דלתון. הוכח:  $\angle DAE = \angle FAB$ .



**66** במשולש שווה שוקיים ABC ( $AB = AC$ ) מקצים נקודות D ו-E על השוקיים. נתון כי:  $AD = AE$ . הנקודה N היא אמצע BC. הוכח כי ADNE הוא דלתון.



**67** בדלתון ABCD האריכו את האלכסון המשני משני צדיו כמתואר בשרטוט כך שמתקיים:  $KD = BL$ . הוכח: המרובע ALCK הוא דלתון.

**תשובות סופיות:**

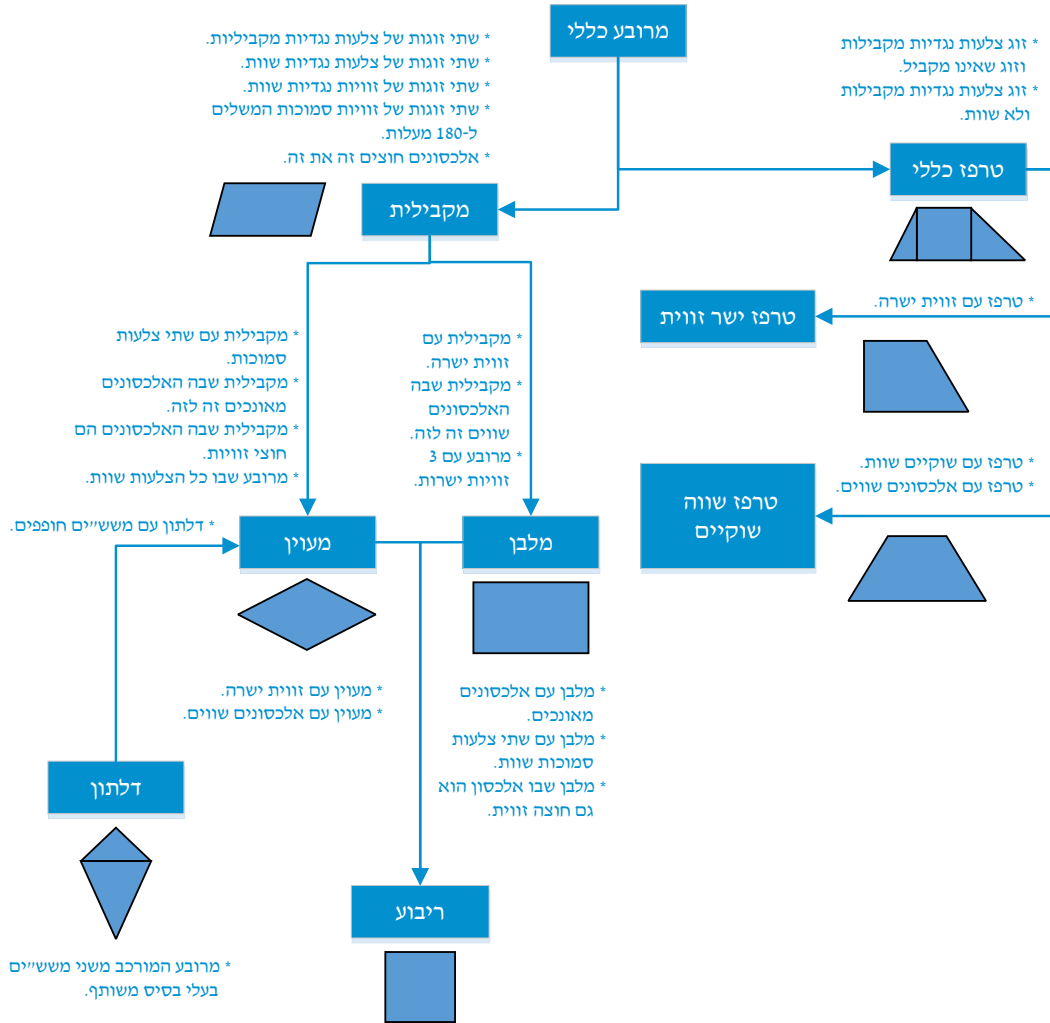
65) שאלת הוכחה.

66) שאלת הוכחה.

67) שאלת הוכחה.

## סיכום משפחת המרובעים:

להלן דיאגרמה מסכמת של כל משפחת המרובעים ותכונותיהם:



# קורס מתמטיקה להנדסאי טכנולוגיות מים

פרק 14 - גיאומטריה אוקלידית - שטחים והיקפים

תוכן העניינים

215	1. שטחים והיקפים של משולשים
217	2. שטחים והיקפים של מרובעים
218	3. שאלות עם מקבילית
221	4. שאלות עם מלבן
222	5. שאלות עם מעוין
224	6. שאלות עם ריבוע
226	7. שאלות עם טרפז

## שטחים והיקפים של משולשים:

סיכום כללי:

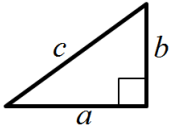
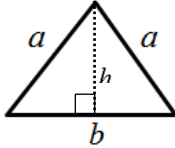
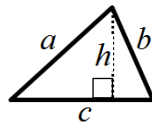
שטח – הגדרה:

גודל של תחום מישורי בהשוואה ליחידת מידה קבועה.  
שטח נמדד ביחידות מידה של אורך בריבוע כגון:  
מטר ריבועי ( $m^2$ ), ס"מ ריבועי (סמ"ר  $cm^2$ ).

היקף – הגדרה:

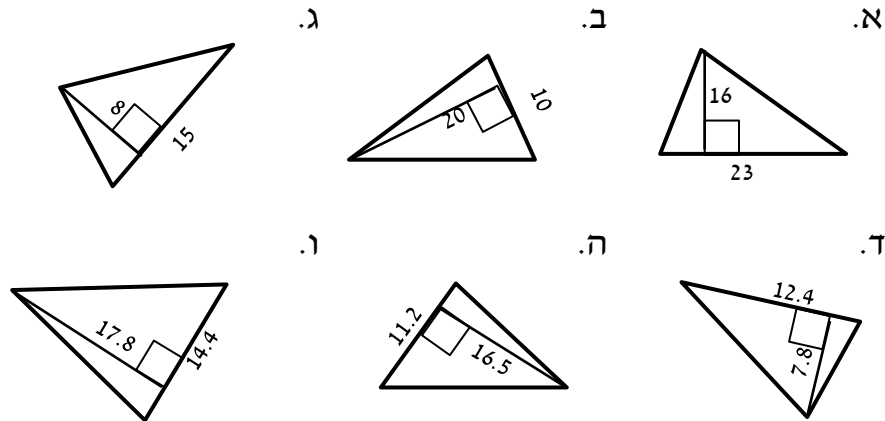
היקף מצולע הוא סכום כל צלעותיו.

משולשים:

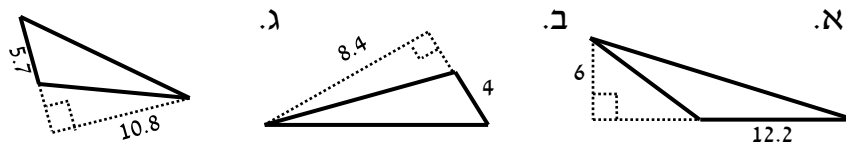
משולש ישר זווית	משולש שווה שוקיים	משולש כללי	סוג
			איור
$S = \frac{a \cdot b}{2}$	$S = \frac{b \cdot h}{2}$	$S = \frac{c \cdot h}{2}$	שטח
$P = a + b + c$	$P = 2a + b$	$P = a + b + c$	היקף

## שאלות:

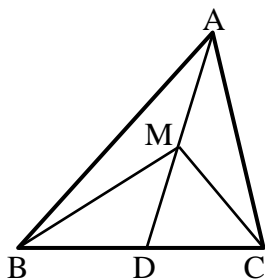
(1) מצא את שטחם של המשולשים הבאים (כל המידות נתונות בס"מ):



(2) מצא את שטחם של המשולשים קהי-הזווית הבאים (כל המידות בס"מ):



(3) הוכח כי אם במשולש ABC, הקטע AD המחבר את הקדקוד A עם הצלע BC יוצר שני משולשים שווים בשטחם אז הוא תיכון ל-BC.



(4) במשולש ABC הקטע AD הוא תיכון לצלע BC. M היא אמצע AD. הוכח כי:

א. הקטעים AD, MC ו-BM מחלקים את המשולש ABC ל-4 משולשים שווים שטח.

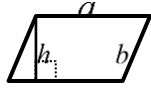
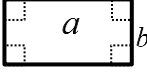
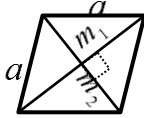

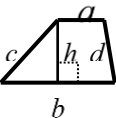
ב.  $S_{MBC} = \frac{1}{2} S_{ABC}$ .

## תשובות סופיות:

- (1) א. 184 סמ"ר      ב. 100 סמ"ר      ג. 60 סמ"ר      ד. 48.36 סמ"ר  
 ה. 92.4 סמ"ר      ו. 128.16 סמ"ר
- (2) א. 36.6 סמ"ר      ב. 16.8 סמ"ר      ג. 30.78 סמ"ר
- (3) שאלת הוכחה.
- (4) שאלת הוכחה.

## שטחים והיקפים של מרובעים:

סיכום כללי:

סוג	מקבילית	מלבן	מעוין	ריבוע	טרפז
איור					
שטח	$S = a \cdot h$	$S = a \cdot b$	$S = a \cdot h$ $S = \frac{m_1 \cdot m_2}{2}$	$S = a^2$	$S = \frac{(a+b)h}{2}$
היקף	$P = 2(a+b)$	$P = 2(a+b)$	$P = 4a$	$P = 4a$	$P = a+b+c+d$

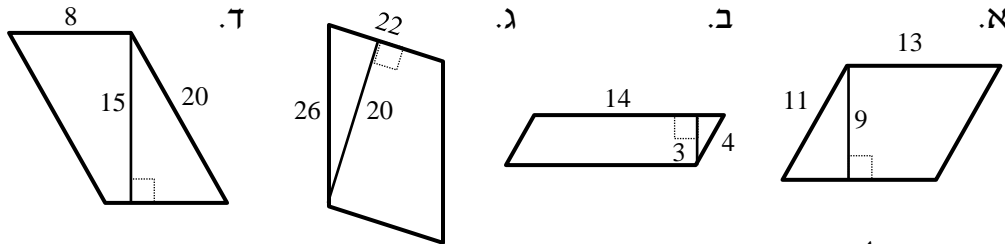
הערות כלליות:

- שטח מקבילית ניתן לחישוב ע"י מכפלת כל צלע בגובה המתאים לה. כך ניתן לקבל את הנוסחה:  $S = a \cdot h_a = b \cdot h_b$  כאשר  $h_a$  ו-  $h_b$  הם הגבהים לצלעות  $a$  ו-  $b$  בהתאמה.
- ניתן לחשב שטח מעוין ע"י מחצית ממכפלת אלכסונים או ע"י מכפלת צלע בגובה שלה (שכן היא סוג של מקבילית).
- עבור טרפז ישר זווית, שבו  $h=c$  נקבל:  $S = \frac{(a+b)c}{2}$ .
- ניתן לחשב שטח של טרפז ע"י הורדת גבהים, חלוקתו למלבן ושני משולשים, חישוב שטחם בנפרד ואיחודם.

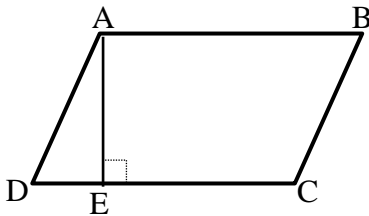
## שאלות עם מקבילית:

### שאלות:

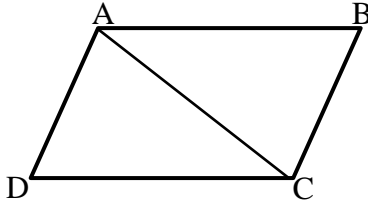
(5) חשב את השטחים וההיקפים של המקבילות הבאות (כל המידות בס"מ):



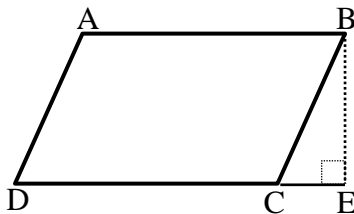
- (6) נתונה מקבילית ABCD. מעבירים גובה AE לצלע CD שאורכו הוא 6 ס"מ. ידוע כי שטח המקבילית הוא 60 סמ"ר.  
א. מצא את אורך הצלע AB.  
ב. ידוע כי היקף המקבילית הוא 36 ס"מ. מצא את אורך הצלע BC.



- (7) נתונה מקבילית ABCD. מעבירים את האלכסון AC שאורכו 25 ס"מ. ידוע כי היקף המשולש ACD הוא 66 ס"מ. חשב את היקף המקבילית.

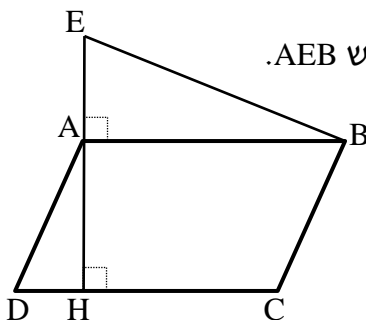


- (8) נתונה מקבילית ABCD. מורידים גובה מהקדקוד B לצלע CD כך שנוצר המשולש BCE. שטח המשולש BCE הוא 24 סמ"ר ושטח המקבילית ABCD הוא 112 סמ"ר. נתון:  $CE = 6$  ס"מ.



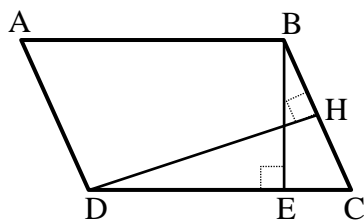
- א. מצא את אורך הגובה BE.  
ב. מצא את אורך הצלע AB של המקבילית.

- (9) נתונה מקבילית ABCD. מעלים אנך מהקדקוד A עד לנקודה E ויוצרים משולש AEB. מורידים גובה AH לצלע CD שאורכו 12 ס"מ. נתון:  $AD = 13$  ס"מ,  $AE = 8$  ס"מ. שטח כל הצורה AEBCD הוא 256 סמ"ר.



- א. מצא את אורך הצלע AB.  
ב. חשב את היקף המקבילית ABCD.

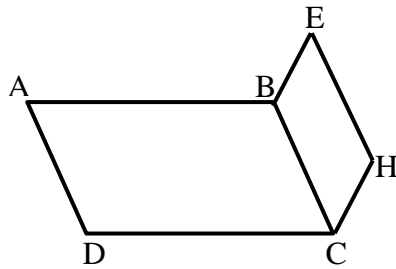
10) במקבילית ABCD מעבירים את הגבהים BE ו-DH לצלעות CD ו-BC בהתאמה.



נתון:  $BE = 12$  ס"מ,  $BC = 14.4$  ס"מ,  $DH = 15$  ס"מ.

- חשב את שטח המקבילית ABCD.
- חשב את אורך הצלע AB.
- חשב את היקף המקבילית.

11) נתונה המקבילית ABCD.

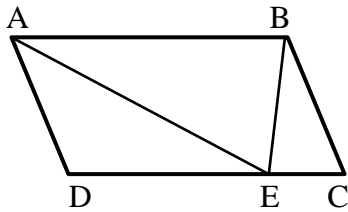


על הצלע BC בונים מקבילית נוספת BCHE שהיקפה הוא 44 ס"מ.

ידוע כי היקף הצורה ABEHCD הוא 94 ס"מ.  
נתון:  $BC = 15$  ס"מ.

- חשב את אורך הצלע AB.
- חשב את היקף המקבילית ABCD.

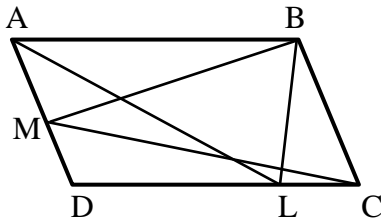
12) המרובע ABCD הוא מקבילית.



הנקודה E נמצאת על DC.

הוכח כי:  $S_{AEB} = \frac{1}{2} S_{ABCD}$ .

13) המרובע ABCD הוא מקבילית.



הנקודות M ו-L נמצאות על הצלעות AD ו-DC בהתאמה.

הוכח כי:  $S_{BMC} = S_{ALB}$ .

### תשובות סופיות:

- (5) א. 48 ס"מ  $P$  , 117 סמ"ר  $S$       ב. 36 ס"מ  $P$  , 42 סמ"ר  $S$
- ג. 96 ס"מ  $P$  , 440 סמ"ר  $S$       ד. 56 ס"מ  $P$  , 120 סמ"ר  $S$
- (6) א. 10 ס"מ  $AB$       ב. 8 ס"מ  $BC$
- (7) 82 ס"מ  $P$
- (8) א. 8 ס"מ  $BE$       ב. 14 ס"מ  $AB$
- (9) א. 16 ס"מ  $AB$       ב. 58 ס"מ  $P$
- (10) א. 216 סמ"ר  $S$       ב. 18 ס"מ  $AB$       ג. 64.8 ס"מ  $P$
- (11) א. 25 ס"מ  $AB$       ב. 80 ס"מ  $P$
- (12) שאלת הוכחה.
- (13) שאלת הוכחה.

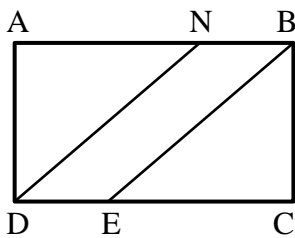
## שאלות עם מלבן:

## שאלות:

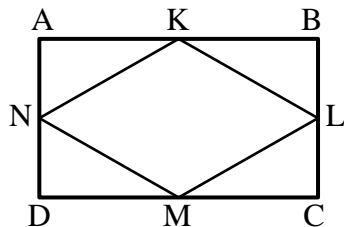
14) במלבן ABCD אורכי הצלעות הם:  $AB = 12$  ס"מ,  $BC = 8$  ס"מ. מצאו את ההיקף של המלבן.

15) במלבן ABCD אורך הצלע AB הוא 10 ס"מ. היקף המלבן הוא 32 ס"מ. מצאו את שטח המלבן.

16) במלבן ABCD נתון:  $DC = 11$  ס"מ,  $AD = 9$  ס"מ. מצאו את האורך של האלכסון AC.



17) המרובע ABCD הוא מלבן. הישרים DN ו-BE מקבילים. נתון:  $AB = 32$  ס"מ,  $DN = 30$  ס"מ ו- $BN = 8$  ס"מ. הוכח כי מרובע NBED הוא מקבילית וחשב את שטחה.



18) הנקודות K, L, M ו-N הן אמצעי הצלעות AB, BC, CD, AD בהתאמה במלבן ABCD. נתון כי היקף המלבן הוא 120 ס"מ וכי שטחו הוא 836 סמ"ר. חשב את שטחו של המרובע KLMN.

## תשובות סופיות:

14) 40 ס"מ.

15) 60 סמ"ר.

16)  $14.21$  ס"מ  $\approx \sqrt{202}$ .

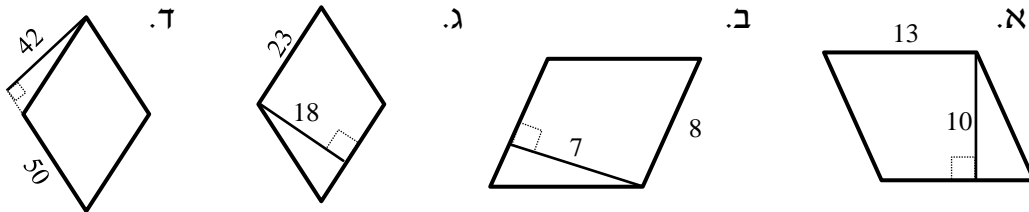
17) 144 סמ"ר.

18) 418 סמ"ר.

## שאלות עם מעוין:

### שאלות:

19) חשב את השטחים וההיקפים של המעוינים הבאים (כל המידות בס"מ):



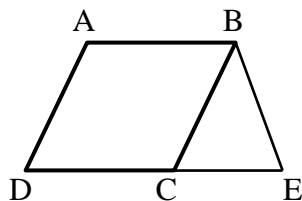
20) במעוין ABCD האלכסונים נפגשים בנקודה O. נתון:  $AO = 3$  ס"מ,  $BO = 4$  ס"מ. מצא את אורך צלע המעוין.

21) במעוין ABCD האלכסונים נפגשים בנקודה O. נתון:  $AB = 12$  ס"מ,  $BO = 8$  ס"מ. מצא את AO.

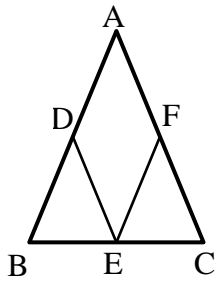
22) במעוין ABCD האלכסון AC שווה באורכו לצלע המעוין. נתון:  $AB = 20$  ס"מ.

- א. חשב את אורך האלכסון BD.  
ב. חשב את שטח המעוין.

23) נתון מעוין ABCD. אורך האלכסון הקצר הוא 7 ס"מ ושטח המעוין הוא 35 סמ"ר. חשב את היקף המעוין.

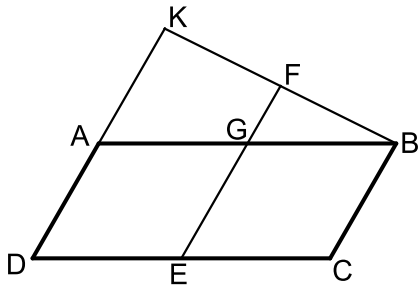


24) נתון מעוין ABCD בעל אורך צלע של 8 ס"מ. מעבירים את הקטע BE השווה באורכו לצלע המעוין כך שנוצר המשולש BCE. ידוע כי:  $CE = 6$  ס"מ.  
א. איזה סוג משולש הוא המשולש BCE? נמק.  
ב. חשב את היקף הצורה ABCE.



- (25)** נתון משולש שווה שוקיים  $ABC$ ,  $(AB = AC)$ . מסמנים את אמצעי צלעות המשולש ב-D, E ו-F ומעבירים את הקטעים DE ו-EF כך שהמרובע ADEF הוא מעוין. נתון:  $BC = 12$  ס"מ, וכי היקף המשולש ABC הוא 48 ס"מ.  
א. מצא את אורך צלע המעוין ADEF.  
ב. חשב את היקף המעוין ADEF.

- (26)** המרובע ABCD הוא מקבילית שבה אורך הצלע AB גדולה פי 2 מהצלע AD. ממשיכים את הצלע AD עד לנקודה K ומחברים אותה לקדקוד B. מעבירים את הקטע FE כך ש-F היא אמצע הקטע BK. EF חותך את הצלע AB בנקודה G ומקביל לצלע AD.



- א. הוכח כי המרובע AGED הוא מעוין.  
ב. שטח המעוין AGED הוא 20 סמ"ר.  
חשב את שטח המרובע DCBK אם ידוע כי A היא אמצע הקטע DK.

### תשובות סופיות:

- (19)** א.  $52$  ס"מ  $P =$ ,  $130$  סמ"ר  $S =$   
ב.  $32$  ס"מ  $P =$ ,  $56$  סמ"ר  $S =$   
ג.  $92$  ס"מ  $P =$ ,  $414$  סמ"ר  $S =$   
**(20)**  $5$  ס"מ.  
**(21)**  $8.94$  ס"מ  $\approx \sqrt{80}$ .  
**(22)** א.  $BD = 20\sqrt{3}$  ס"מ.  
**(23)**  $24.413$  ס"מ.  
**(24)** א. משולש שווה שוקיים, מכיוון ש- $BE=BC$ . ב.  $38$  ס"מ  $P =$ .  
**(25)** א.  $9$  ס"מ. ב.  $36$  ס"מ  $P =$ .  
**(26)** א.  $60$  סמ"ר. ב.  $60$  סמ"ר.

## שאלות עם ריבוע:

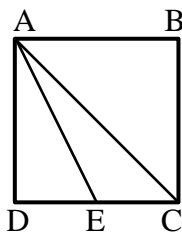
### שאלות:

**(27)** נתון ריבוע ABCD בעל אורך צלע של 6 ס"מ.

- חשב את שטח הריבוע.
- חשב את היקף הריבוע.
- חשב את אורך האלכסון בריבוע.

**(28)** שטחו של ריבוע ABCD הוא 49 סמ"ר.

- מהו אורך צלע הריבוע?
- מהו אורך האלכסון בריבוע?
- מהו היקף הריבוע?



**(29)** בריבוע ABCD מעבירים את הקטע AE כך ש-E היא אמצע

- הצלע DC ואת האלכסון AC. שטח הריבוע הוא 40 סמ"ר.
- מצא את אורך צלע הריבוע.
- מצא את אורך אלכסון הריבוע.
- מצא את אורך הקטע AE.

**(30)** חשב את צלע הריבוע השווה בשטחו לשטח משולש שצלעו 25 ס"מ והגובה לצלע זו הוא 18 ס"מ.

**(31)** נתונים מלבן וריבוע השווים בשטחם. אורכי צלעות המלבן הם 25 ס"מ ו-9 ס"מ. חשב את היקף הריבוע.

**(32)** נתונים מלבן וריבוע השווים בהיקפם. שטח הריבוע הוא 36 ס"מ ואורך המלבן גדול ב-8 ס"מ מרוחבו. חשב את שטח המלבן.

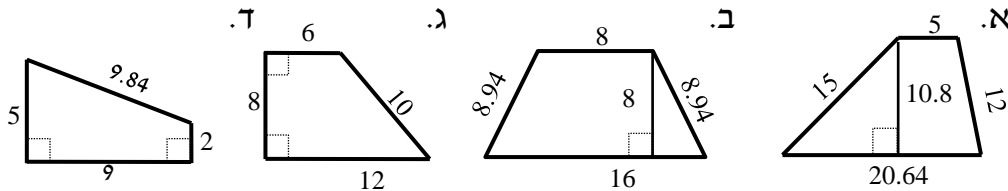
**תשובות סופיות:**

- |              |             |                  |
|--------------|-------------|------------------|
| ג. 8.48 ס"מ. | ב. 24 ס"מ   | (27) א. 36 סמ"ר  |
| ג. 28 ס"מ.   | ב. 9.89 ס"מ | (28) א. 7 ס"מ    |
| ג. 7.07 ס"מ. | ב. 8.94 ס"מ | (29) א. 6.32 ס"מ |
|              |             | (30) 15 ס"מ.     |
|              |             | (31) 60 ס"מ.     |
|              |             | (32) 20 סמ"ר.    |

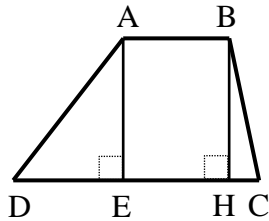
## שאלות עם טרפז:

## שאלות:

33) חשב את השטחים וההיקפים של הטרפזים הבאים (כל המידות בס"מ):

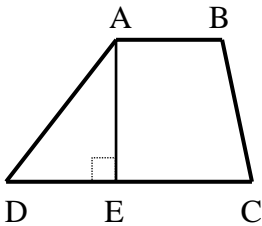


34) נתון טרפז ABCD,  $(AB \parallel CD)$ .



מורידים את הגבהים AE ו-BH שאורכם 8 ס"מ.  
ידוע כי:  $DE = 6$  ס"מ,  $HC = 2$  ס"מ.  
שטח הטרפז הוא 88 סמ"ר.  
מצא את אורך בסיס הטרפז AB.

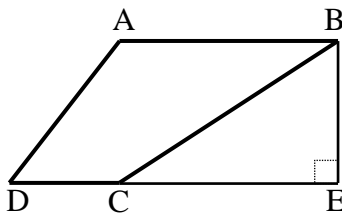
35) נתון טרפז ABCD,  $(AB \parallel CD)$ .



מורידים גובה AE מהקדקוד A.  
היקף הטרפז הוא 68 ס"מ ונתון כי:  
 $AD = 18$  ס"מ,  $BC = 16$  ס"מ,  $AB = 12$  ס"מ.  
א. מצא את אורך הבסיס DC.

ב. מצא את הגובה AE אם ידוע כי שטח הטרפז הוא 255 סמ"ר.

36) נתון טרפז ABCD,  $(AB \parallel CD)$ .

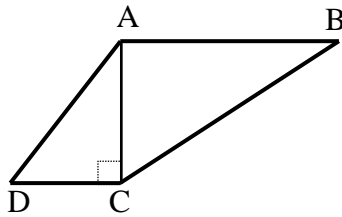


מהקדקוד B מורידים גובה חיצוני לטרפז BE  
כאשר E נמצאת על המשך הבסיס DC.  
ידוע כי:  $AB = 20$  ס"מ,  $DC = 8$  ס"מ.  
וכי שטח הטרפז הוא 196 סמ"ר.

א. מצא את הגובה BE.

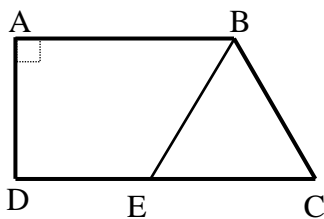
ב. נתון כי:  $\angle D = 60^\circ$ ,  $\angle BCD = 130^\circ$ .

חשב את זווית A ואת זוויות המשולש BCE.



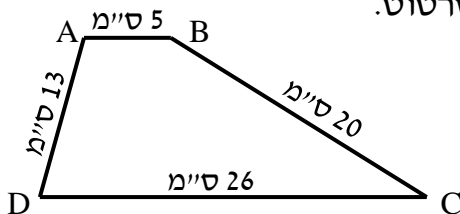
37 נתון טרפז  $ABCD$ ,  $(AB \parallel CD)$ .

- האלכסון  $AC$  הוא גובה בטרפז ואורכו 12 ס"מ.  
ידוע כי:  $AD = AB = 13$  ס"מ,  $BC = 17.7$  ס"מ.  
היקף הטרפז הוא 48.7 ס"מ ו- $\angle B = 42.71^\circ$ .  
א. מצא את אורך הבסיס  $DC$ .  
ב. חשב את שטח הטרפז.  
ג. חשב את זווית  $C$ .

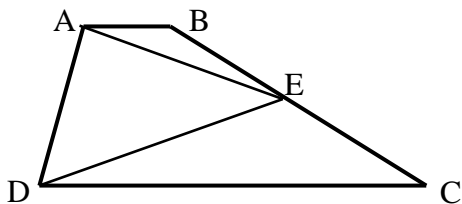


38 הטרפז  $ABCD$ ,  $(AB \parallel CD)$  הוא ישר זווית ( $\angle A = 90^\circ$ ).

- מהנקודה  $E$  שעל הבסיס  $DC$  מעבירים את הקטע  $BE$   
כך שהמשולש  $BCE$  הוא שווה צלעות עם  $BC = 14$  ס"מ.  
היקף הטרפז  $ABCD$  הוא 67 ס"מ ו- $AD$  הוא 10 ס"מ.  
א. מהו היקף הטרפז  $ABED$ ?  
ב. חשב את שטח הטרפז  $ABED$ .



39 נתון טרפז  $ABCD$  שאורכי צלעותיו נתונים בסרטוט.  
חשב את שטח הטרפז (פתור כתרגיל חישוב).

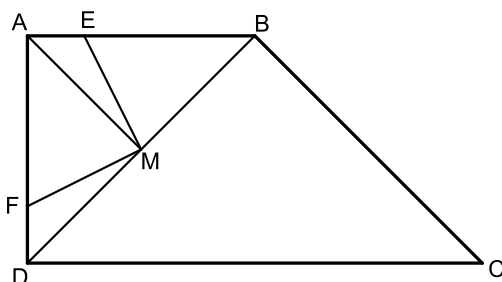


40 המרובע  $ABCD$  הוא טרפז  $(AB \parallel CD)$ .  
הנקודה  $E$  היא אמצע השוק  $BC$ .

$$\text{הוכח כי: } S_{ADE} = \frac{1}{2} S_{ABCD}$$

41 המרובע  $ABCD$  הוא טרפז ישר זווית ( $\angle A = 90^\circ$ ).

- הנקודה  $M$  נמצאת על אמצע האלכסון  $BD$  של הטרפז וממנה מעבירים את הקטעים  $ME$  ו- $MF$  השווים זה לזה ומחברים אותה עם הקדקוד  $A$ .  
נתון כי:  $ME \perp MF$  וכי:  $\angle DFM > 90^\circ$ .



- א. הוכח:  $\triangle AMF \cong \triangle BME$ .  
ב. נתון כי:  $AE = FD = 1$ ,  $BC = \sqrt{32}$ .  
כמו כן:  $AM \parallel BC$ .  
i. מצא את אורך הקטע  $BE$ .  
ii. חשב את שטח הטרפז  $ABCD$ .

## תשובות סופיות:

- (33) א.  $S = 52.64$  ס"מ,  $P = 138.456$  סמ"ר  
 ב.  $S = 41.88$  ס"מ,  $P = 96$  סמ"ר  
 ג.  $S = 36$  ס"מ,  $P = 72$  סמ"ר  
 ד.  $S = 25.48$  ס"מ,  $P = 31.5$  סמ"ר
- (34)  $AB = 7$  ס"מ
- (35) א.  $DC = 22$  ס"מ  
 ב.  $AE = 15$  ס"מ
- (36) א.  $BE = 14$  ס"מ  
 ב.  $\angle A = 120^\circ$ ,  $\angle CBE = 40^\circ$ ,  $\angle BCE = 50^\circ$ ,  $\angle E = 90^\circ$
- (37) א.  $DC = 5$  ס"מ  
 ב.  $S = 108$  סמ"ר  
 ג.  $\angle C = 137.29^\circ$
- (38) א.  $P = 53$  ס"מ  
 ב.  $S = 145$  סמ"ר
- (39)  $186$  סמ"ר
- (40) שאלת הוכחה.
- (41) א.  $3$  ס"מ  
 ב. ii.  $24$  סמ"ר

# קורס מתמטיקה להנדסאי טכנולוגיות מים

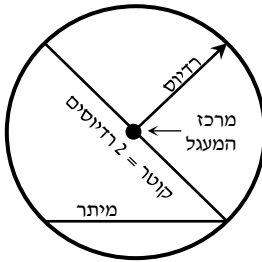
פרק 15 - גיאומטריה אוקלידית - המעגל

תוכן העניינים

229	1. הגדרות
230	2. קשתות ומיתרים במעגל
233	3. אנך אמצעי למיתר
235	4. זוויות מרכזיות והיקפיות במעגל
239	5. זווית היקפית הנשענת על קוטר
241	6. משיקים למעגל
244	7. משיק ומיתר
246	8. שני מעגלים
248	9. מעגל חוסם ומעגל חסום
251	10. שטחים והיקפים במעגל

## הגדרות:

- מעגל – המקום הגאומטרי של כל הנקודות שמרחקן מנקודה קבועה קבוע.
- הנקודה הקבועה נקראת מרכז המעגל.
- רדיוס – קטע המחבר את מרכז המעגל עם נקודה על המעגל.
- מיתר – קטע המחבר שתי נקודות שעל המעגל.
- קוטר – מיתר העובר במרכז המעגל.
- היקף מעגל  $= 2\pi R$ .
- שטח מעגל  $= \pi R^2$ .
- קשת – חלק מהיקף המעגל.
- גזרה – חלק משטח המעגל.
- זווית מרכזית – זווית שקדקודה במרכז המעגל ושוקיה רדיוסים.
- זווית היקפית – זווית שקדקודה על היקף המעגל ושוקיה מיתרים.



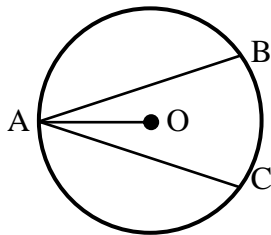
## קשתות ומיתרים במעגל:

### סיכום כללי:

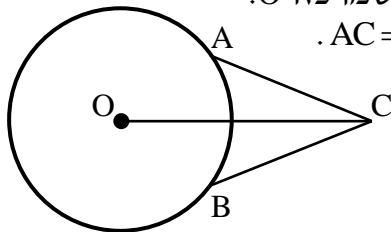
#### משפטים העוסקים במיתרים במעגל:

1. מיתרים שווים נשענים על קשתות שוות ולהפך.
2. על מיתרים שווים נשענות זוויות מרכזיות שוות ולהפך.
3. מיתרים שווים נמצאים במרחקים שווים ממרכז המעגל. (משפט הפוך) מיתרים הנמצאים במרחק שווה ממרכז המעגל שווים.

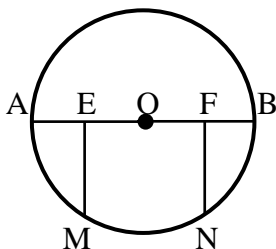
### שאלות:



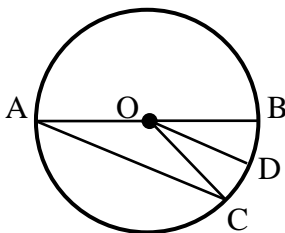
- (1) AB ו-AC הם שני מיתרים שווים במעגל שמרכזו O. הוכח כי AO חוצה את זווית BAC.




- (2) A ו-B הן שתי נקודות הנמצאות על היקף המעגל שמרכזו O. נקודה C הנמצאת מחוץ למעגל מקיימת כי:  $AC = BC$ . הוכח כי OC חוצה את זווית C.



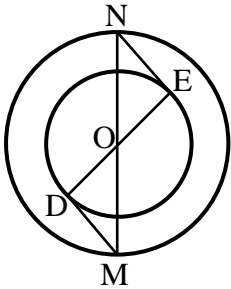
- (3) הקטע AB הוא קוטר במעגל שמרכזו O. נתון כי:  $EO = FO$ ,  $EM \perp AB$ ,  $FN \perp AB$ . הוכח כי  $MN = EF$ .



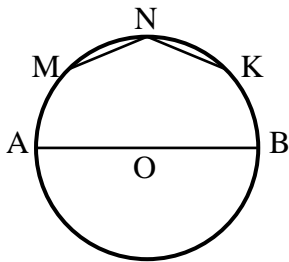
- (4) AB הוא קוטר במעגל שלפניך. AC הוא מיתר ו-O מרכז מעגל. הרדיוס OD חוצה את זווית BOC. הוכח כי DO מקביל ל-AC.



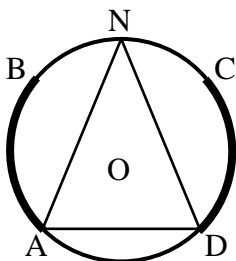
- (5) במעגל שלפניך AC ו-BD הם קטרים. הוכח כי המרובע ABCD הוא מלבן.




- (6) בשרטוט שלפניך שני מעגלים בעלי מרכז משותף O. הקטע MN הוא קוטר במעגל הגדול והקטע DE הוא קוטר במעגל הקטן. מעבירים את הקטעים MD ו-NE. הוכח כי MD שווה ל-NE.



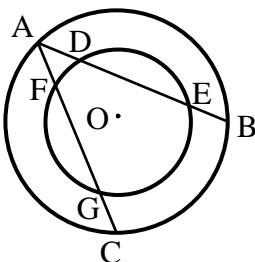
- (7) AB הוא קוטר במעגל שמרכזו O. את הקשת העליונה של AB מחלקים ל-4 קשתות שוות, כלומר:  $\widehat{AM} = \widehat{MN} = \widehat{NK} = \widehat{KB}$ . חשב את זווית KNM.



- (8) במעגל שלפניך נתון כי הקשתות המסומנות שוות ז"א:  $\widehat{AB} = \widehat{CD}$ . הנקודה N היא אמצע הקשת  $\widehat{BC}$ . הוכח כי המשולש AND הוא שווה שוקיים.



- (9) המיתרים MN ו-ML שווים זה לזה. המיתר MK חוצה את זווית NML. הוכח כי  $\triangle KNM \cong \triangle KLM$ . הוכח כי MK הוא קוטר במעגל.



- (10) נתונים שני מעגלים בעלי מרכז משותף O. מעבירים את המיתרים AB ו-AC במעגל הגדול. ידוע כי שני המיתרים שווים זה לזה. מסמנים את נקודות החיתוך של המיתרים עם המעגל הקטן ב-D ו-E עבור המיתר AB, ו-F ו-G עבור המיתר AC. הוכח:  $DE = FG$ .

**תשובות סופיות:**

- 1) שאלת הוכחה.
- 2) שאלת הוכחה.
- 3) שאלת הוכחה.
- 4) שאלת הוכחה.
- 5) שאלת הוכחה.
- 6) שאלת הוכחה.
- 7)  $135^\circ$ .
- 8) שאלת הוכחה.
- 9) שאלת הוכחה.
- 10) שאלת הוכחה.

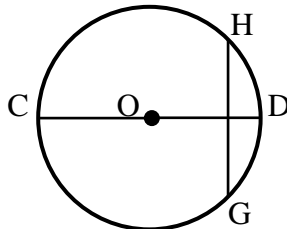
## אנך אמצעי למיתר:

### סיכום כללי:

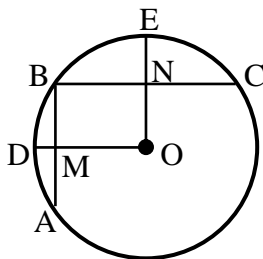
### משפט אנך אמצעי למיתר:

1. אנך למיתר ממרכז המעגל חוצה את המיתר. (משפט הפוך ל-4 (1)) רדיוס החוצה מיתר מאונך לו. (משפט הפוך ל-4 (2)) קטע היוצא מאמצע מיתר ומאונך לו, עובר במרכז המעגל.

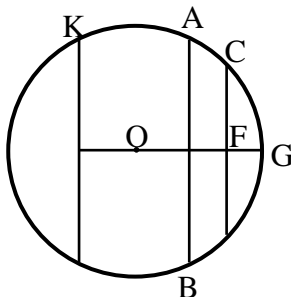
### שאלות:



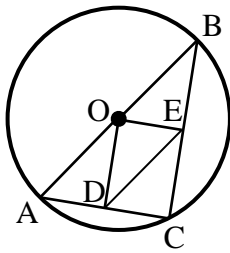
- 11** במעגל שמרכזו O המיתר GH מאונך לקוטר CD. הוכח כי  $GC = HC$ . נתון כי:  $\widehat{HDG} = 80^\circ$ . בת כמה מעלות הקשת  $\widehat{CG}$ ?



- 12** AB ו-BC הם מיתרים במעגל שמרכזו O. מעבירים את הרדיוסים OD ו-OE אשר חותכים את המיתרים AB ו-BC בנקודות M ו-N בהתאמה. ידוע כי מרובע ONBM הוא מלבן. נתונות המידות הבאות:  $NE = 9$  ס"מ,  $MD = 8$  ס"מ,  $R = 29$  ס"מ. חשב את אורך כל אחד מהמיתרים AB ו-BC.



- 13** AB ו-CD הם מיתרים במעגל שמרכזו O, והם חותכים את הקטע MG, העובר במרכז המעגל, בנקודות E, F ו-M בהתאמה. נתון  $KL \parallel CD$ ,  $CF = DF$ . הוכח:  $KM = LM$ . נתון בנוסף כי:  $ML = BE$ ,  $AB \perp MG$ . הוכח:  $MO = EO$ .



**14** ABC הוא משולש החסום במעגל O. המיתר AB הוא קוטר במעגל. הנקודות D ו-E נמצאות על הצלעות AC ו-BC בהתאמה. מעבירים את הקטעים OD ו-OE וידוע כי:  $OD \perp AC$ ,  $OE \perp BC$ . הוכח כי DE שווה באורכו לרדיוס המעגל.

### תשובות סופיות:

- 11) א. שאלת הוכחה. ב.  $140^\circ$ .
- 12)  $AB = 40$  ס"מ,  $BC = 42$  ס"מ.
- 13) שאלת הוכחה.
- 14) שאלת הוכחה.

## זוויות מרכזיות והיקפיות במעגל:

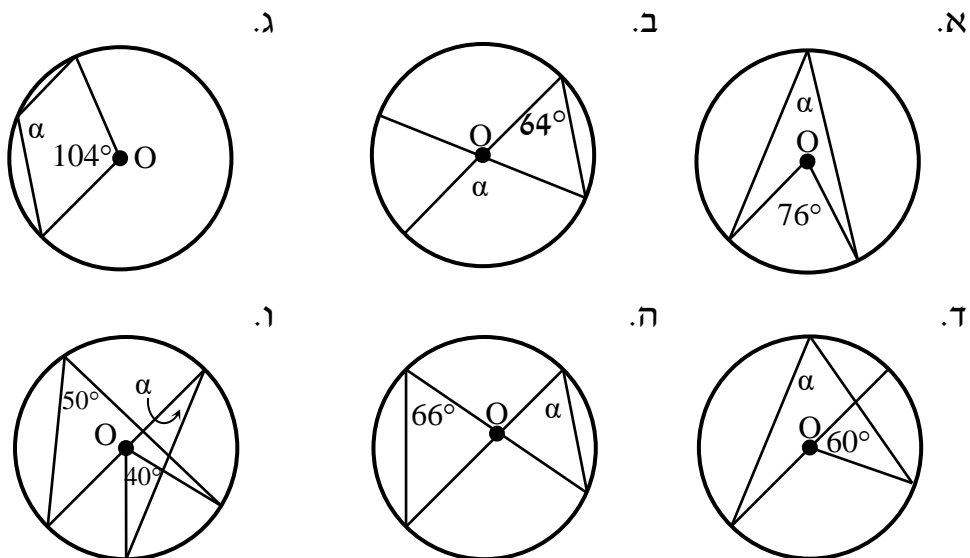
סיכום כללי:

משפטים העוסקים בזוויות במעגל:

- שתי זוויות היקפיות הנשענות על אותה קשת/קשתות שוות, שוות ביניהן. (משפט הפוך ל-5) זוויות היקפיות שוות נשענות על קשתות שוות.
- זווית היקפית שווה למחצית הזווית המרכזית הנשענת על אותה קשת.

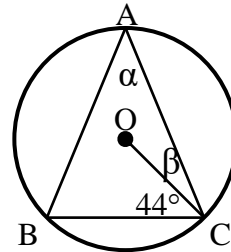
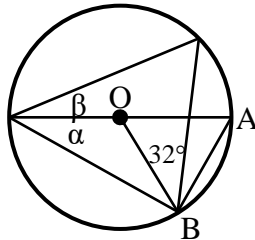
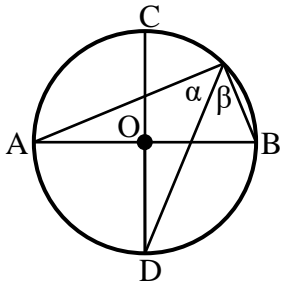
שאלות:

15 נתונים המעגלים הבאים שמרכזם הוא O. חשב את הזווית  $\alpha$  בכל אחד מהמקרים.



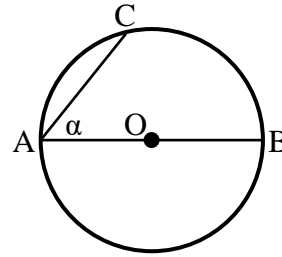
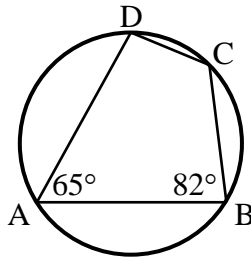
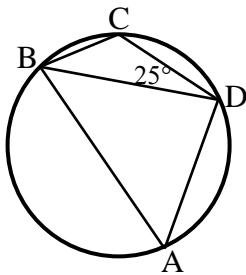
**16** במעגלים הבאים שמרכזם O מופיעים הנתונים לידם.  
חשב את הזוויות  $\alpha$  ו- $\beta$  בכל אחד מהמקרים:

- א.  $AB = AC$ .  
ב.  $\triangle AOB$  - שווה צלעות.  
ג. קטרים  $AB, CD$  מאונכים זה לזה.

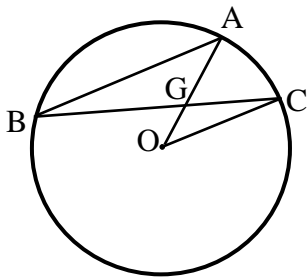


**17** חשב את המבוקש בכל מקרה:

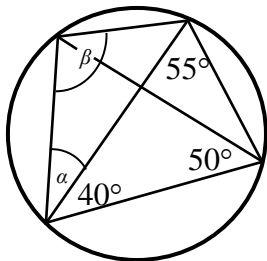
- א.  $AB$  קוטר,  $\widehat{AC} = 84^\circ$ .  
ב.  $\widehat{DC} = 52^\circ$ .  
ג.  $\widehat{DC} = 60^\circ$ .  
חשב את  $\alpha$ .  
חשב  $\widehat{AD}, \widehat{DC}, \widehat{AB}$ .  
חשב  $\angle BAD$ .

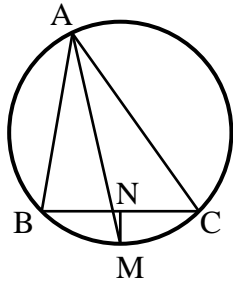


**18**  $AB$  ו- $BC$  הם מיתרים במעגל שמרכזו O.  
נתון:  $AB \parallel CO$ ,  $\angle AGC = 60^\circ$ .  
חשב את גודלה של הזווית  $\angle AOC$ .

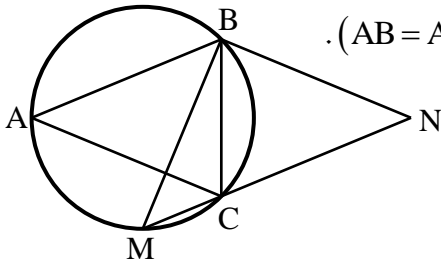


**19** חשב את גודל הזוויות  $\alpha$  ו- $\beta$  במעגל הנתון.

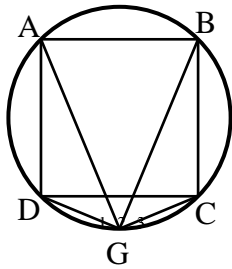




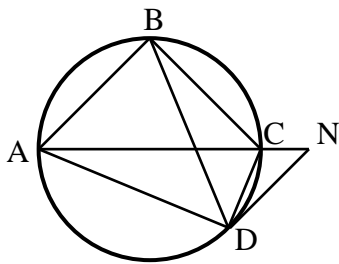
- (20)** המשולש ABC חסום במעגל.  
 המיתר AM חוצה את זווית A.  
 מעבירים אנך מהנקודה M לצלע BC  
 החותך אותה בנקודה N.  
 הוכח:  $BN = CN$ .



- (21)** בסרטוט שלפניך נתון כי המשולשים  
 ABC ו-BMN הם שווים שוקיים ( $AB = AC$ ,  $BM = BN$ ).  
 זווית הראש במשולש BMN היא  $94^\circ$ .  
 חשב את זווית ACB.



- (22)** במעגל שלפניך חסום ריבוע ABCD.  
 הנקודה G נמצאת על היקף המעגל.  
 ממנה מעבירים מיתרים לכל קדקוד  
 כך שנוצרות הזוויות  $\sphericalangle G_1$ ,  $\sphericalangle G_2$ ,  $\sphericalangle G_3$ .  
 הוכח כי  $\sphericalangle G_1 = \sphericalangle G_2 = \sphericalangle G_3$  ומצא אותן.



- (23)** המרובע ABCD חסום במעגל.  
 ממשיכים את האלכסון AC עד לנקודה N  
 ומחברים אותה עם הקדקוד D  
 כך שמתקיים:  $AB \parallel DN$ .  
 הוכח כי זוויות המשולשים  $\triangle ADN$   
 ו- $\triangle BDC$  שוות.

**תשובות סופיות:**

- (15) א.  $38^\circ$     ב.  $128^\circ$     ג.  $128^\circ$     ד.  $60^\circ$     ה.  $66^\circ$     ו.  $30^\circ$
- (16) א.  $\alpha = 46^\circ, \beta = 23^\circ$     ב.  $\alpha = 30^\circ, \beta = 28^\circ$     ג.  $\alpha = \beta = 45^\circ$
- (17) א.  $\alpha = 48^\circ$     ב.  $\widehat{AD} = 112^\circ, \widehat{BC} = 78^\circ, \widehat{AB} = 118^\circ$     ג.  $55^\circ$
- (18)  $40^\circ$
- (19)  $\alpha = 35^\circ, \beta = 95^\circ$
- (20) שאלת הוכחה.
- (21)  $68.5^\circ$
- (22)  $\sphericalangle G_1 = \sphericalangle G_2 = \sphericalangle G_3 = 45^\circ$
- (23) שאלת הוכחה.

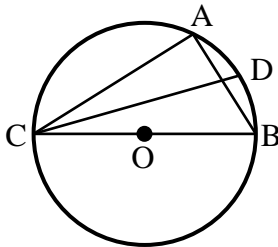
## זווית היקפית הנשענת על קוטר:

**סיכום כללי:**

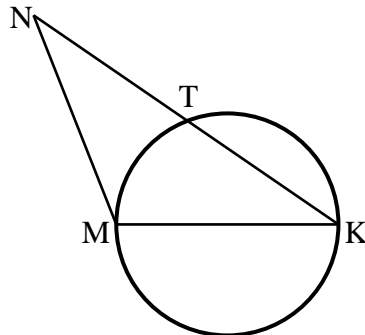
**משפט:**

1. זווית היקפית הנשענת על קוטר היא זווית ישרה.  
(משפט הפוך) מיתר עליו נשענת זווית היקפית ישרה הוא קוטר.

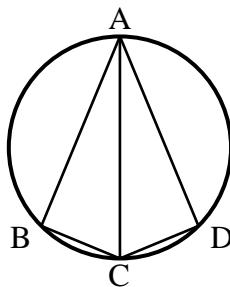
**שאלות:**



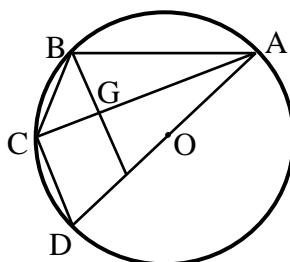
- (24)** המשולש ABC חסום במעגל שמרכזו O כך ש-BC הוא קוטר. מעבירים את המיתר CD המקיים:  $\angle DCB = 20^\circ$ . מצא את זווית CAD.



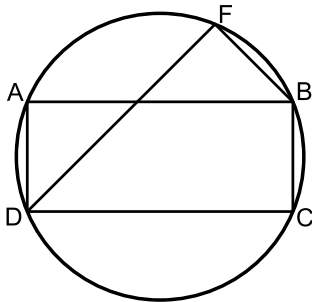
- (25)** MK הוא קוטר במעגל שלפניך. הקטע KN חותך את המעגל בנקודה T. מתקיים:  $KT = NT$ . הוכח כי:  $MK = NM$ .



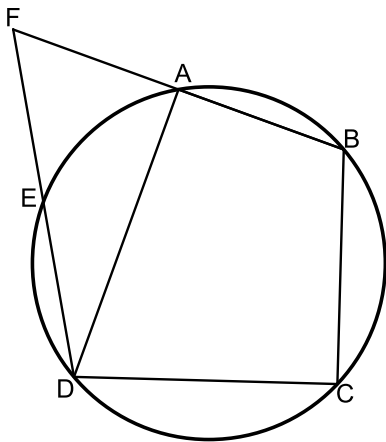
- (26)** מרובע ABCD חסום במעגל כאשר האלכסון AC הוא קוטר וחוצה את זווית BCD. הוכח כי ABCD הוא דלתון.



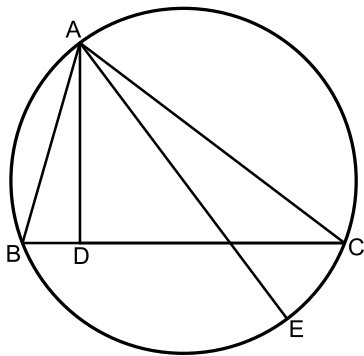
- (27)** AB, AC, AD, BC ו-CD הם מיתרים במעגל שמרכזו O (המיתר AD עובר ב-O). הקטע BE חותך את המיתר AC בנקודה G. נתון:  $BE \parallel CD$ ,  $BG = GE$ . הוכח:  $BC = CD$ .



- (28)** המרובע ABCD הוא מלבן החסום במעגל.  
 מהקדקוד D מעבירים את המיתר DF  
 החותך את הצלע AB בנקודה E.  
 ידוע כי:  $\widehat{AF} = \widehat{CF}$ .  
 הצלע AD של המלבן תסומן ב- $a$ .  
 א. הוכח כי המשולש DAE הוא שווה שוקיים.  
 ב. נתון גם כי:  $BC = BF$ .  
 הבע באמצעות  $a$  את רדיוס המעגל.



- (29)** המרובע ABCD חסום במעגל.  
 המשכי המיתרים AB ו-ED נפגשים בנקודה F.  
 הקטע FD חותך את היקף המעגל בנקודה E  
 כך שמתקיים:  $\widehat{AB} = \widehat{AE}$ .  
 נתון כי הזווית BCD היא ישרה.  
 א. הוכח כי הקטע DF שווה לקוטר המעגל.  
 ב. נתון כי:  $DF = BF$  וכי רדיוס המעגל  
 הוא 12 ס"מ.  
 הוכח כי המרובע AEDB הוא טרפז.  
 ג. חשב את היקף הטרפז AEDB.



- (30)** משולש ABC חסום במעגל.  
 AD גובה לצלע BC ו-AE קוטר במעגל.  
 א. הוכח:  $\sphericalangle BAD = \sphericalangle EAC$ .  
 נתון גם כי:  $CE = \sqrt{21}, AD = 6, CD = 8$ .  
 ב. חשב את רדיוס המעגל.

**תשובות סופיות:**

- (24)**  $110^\circ$ .  
**(25)** שאלת הוכחה.  
**(26)** שאלת הוכחה.  
**(27)** שאלת הוכחה.  
**(28)** א. שאלת הוכחה. ב.  $R = 1.3a$ .  
**(29)** א. שאלת הוכחה. ב. 5.5.  
**(30)** א.  $\alpha = 135^\circ$ . ב.  $\alpha = 45^\circ$ . ג.  $\alpha = 40^\circ$ .

## משיקים למעגל:

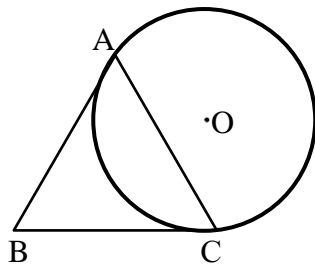
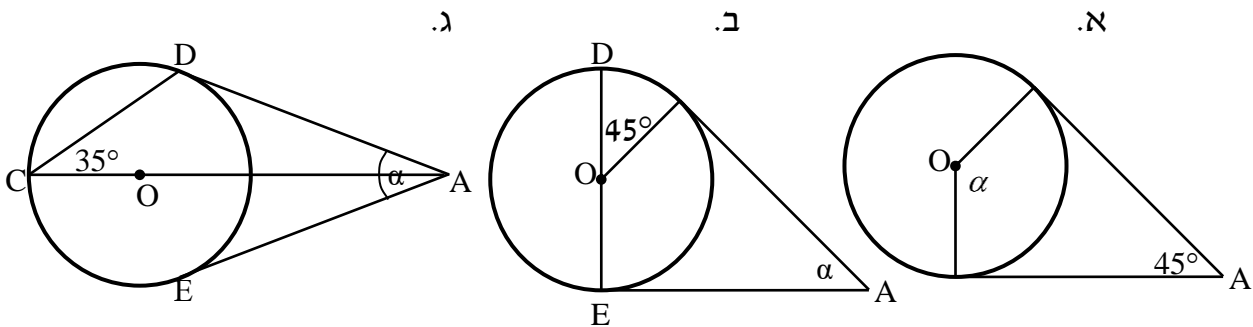
### סיכום כללי:

#### משפטים העוסקים במשיק למעגל ושני משיקים למעגל:

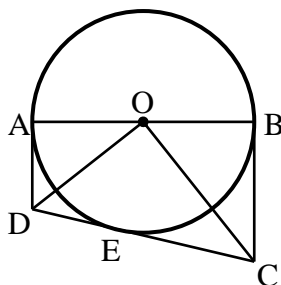
1. משיק מאונך לרדיוס בנקודת ההשקה. (משפט הפוך ל-8) קטע המאונך לרדיוס בקצהו משיק למעגל.
2. שני משיקים למעגל היוצאים מאותה נקודה שווים זה לזה.
3. קטע המחבר את מרכז המעגל עם נקודה שממנה יוצאים שני משיקים חוצה את הזווית בין המשיקים.

### שאלות:

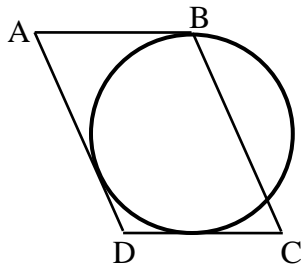
**31** באיורים שלפניך נתונים שני משיקים למעגל היוצאים מנקודה A שמחוץ למעגל. מרכזי המעגלים מסומן ב-O. מצא את  $\alpha$  בכל מקרה.



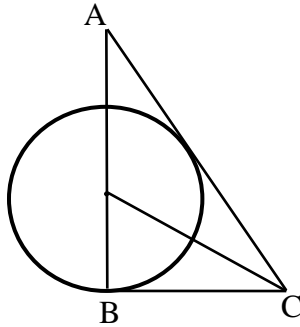
**32** המשולש ABC הוא שווה שוקיים ( $AB = AC$ ). המעגל O משיק לצלעות AB ו-BC בנקודות A ו-C. הוכח כי ABC הוא שווה צלעות.



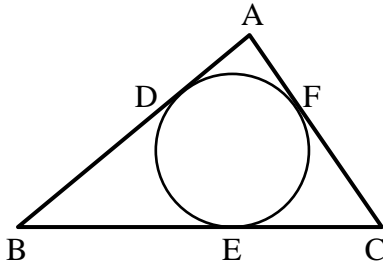
**33** במעגל O מעבירים קוטר AB ושלושה משיקים AD, CD ו-BC. E היא נקודת ההשקה של CD עם המעגל. הוכח כי:  $\angle COD = 90^\circ$ .



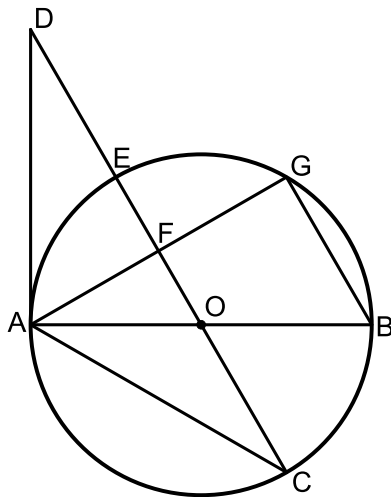
**34** הצלעות  $AB$ ,  $AD$  ו- $DC$  של המקבילית  $ABCD$  משיקות למעגל בנקודות  $B$ ,  $L$  ו- $K$  בהתאמה (ראה שרטוט). נתון:  $BC = 14$  ס"מ,  $CK = 6$  ס"מ. חשב את היקף המקבילית.



**35** הצלעות  $AC$  ו- $BC$  של המשולש  $ABC$  משיקות למעגל שמרכזו  $O$ , בנקודות  $K$  ו- $B$  בהתאמה. הצלע  $AB$  עוברת בנקודה  $O$ . נתון:  $AB = 15$  ס"מ,  $AK = CK$ .  
א. חשב את גודלה של זווית  $A$ .  
ב. חשב את אורכו של רדיוס המעגל.



**36** משולש  $ABC$  חוסם מעגל אשר משיק לצלעותיו בנקודות  $D$ ,  $E$  ו- $F$  כמתואר באיור. נתון כי:  $AC = 18$  ס"מ,  $BD = 14$  ס"מ. מצא את היקף המשולש  $ABC$ .



**37**  $AB$  הוא קוטר במעגל שמרכזו  $O$ . מהנקודה  $A$  מעבירים את המיתרים  $AC$  ו- $AG$ . ואת המשיק  $AD$  כך שהמשולש  $ACD$  שווה שוקיים. הישר  $CD$  חותך את היקף המעגל בנקודה  $E$ , את המיתר  $AG$  בנקודה  $F$  ועובר דרך מרכז המעגל  $O$ . המיתר  $BG$  מקביל לישר החותך  $CD$ .  
א. חשב את זוויות המשולש  $ACD$ .  
ב. הוכח כי:  $AF = FG$ .  
ג. רדיוס המעגל יסומן ב- $R$ . הוכח כי:  $DC = 3R$ .

**תשובות סופיות:**

- (31) א.  $\alpha = 135^\circ$   
(32) שאלת הוכחה.  
(33) שאלת הוכחה.  
(34) 48 ס"מ.  
(35) א.  $30^\circ$   
(36) 64 ס"מ.  
(37) א.  $30^\circ, 30^\circ, 120^\circ$ . ב. שאלת הוכחה. ג. שאלת הוכחה.
- ג.  $\alpha = 40^\circ$ .  
ב.  $\alpha = 45^\circ$ .  
ב. 5 ס"מ.

## משיק ומיתר:

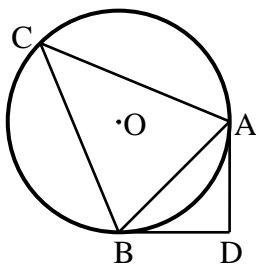
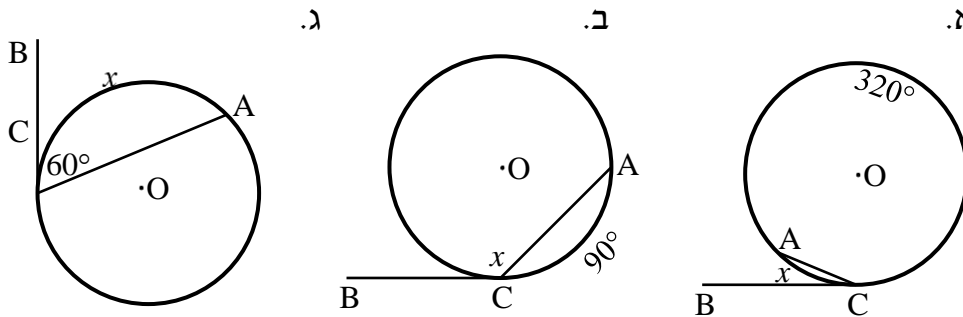
סיכום כללי:

משפט:

1. הזווית הכלואה בין משיק למיתר שווה לזווית ההיקפית הנשענת על המיתר מצדו השני.

שאלות:

38) באיורים שלפניך נתון מעגל שמרכזו O, מיתר AC ומשיק BC בנקודה C. מצא את x.



39) ABC הוא משולש שווה שוקיים ( $AC = BC$ )

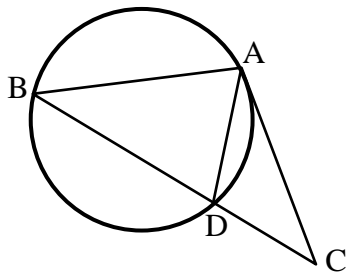
החסום במעגל שמרכזו O.

מהקדקודים A ו-B מעבירים משיקים אשר נחתכים

בנקודה D.

ידוע כי זווית הבסיס במשולש ABC היא  $68^\circ$ .

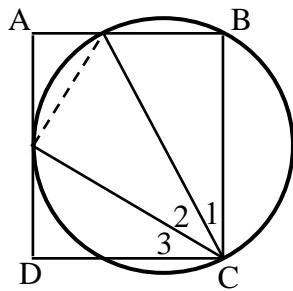
חשב את זווית ADB.



40) AC הוא משיק למעגל בנקודה A.

BC חותך את המעגל בנקודה D.

נתון כי  $AD = CD$ , הוכח:  $AB = AC$ .



- (41)** הקדקודים B ו-C של המלבן ABCD מונחים על מעגל. צלע AD משיקה למעגל בנקודה G והצלע AB חותכת את המעגל בנקודה H.  
 הוכח:  $\sphericalangle C_2 = \sphericalangle C_3$ .  
 (הדרכה: סמן  $\sphericalangle AGH = \alpha$ .)

### תשובות סופיות:

- (38) א.  $x = 20^\circ$       ב.  $x = 135^\circ$       ג.  $x = 120^\circ$
- (39)  $92^\circ$
- (40) שאלת הוכחה.
- (41) שאלת הוכחה.

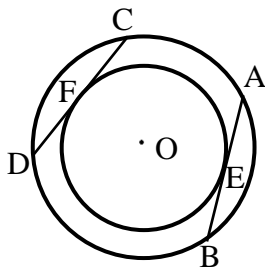
## שני מעגלים:

### סיכום כללי:

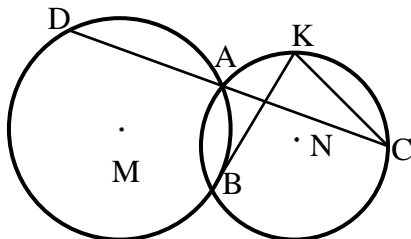
#### משפטים העוסקים בשני מעגלים:

1. קטע המרכזים של שני מעגלים נחתכים חוצה את המיתר המשותף ומאונך לו.
2. קטע המרכזים (או המשכו) של שני מעגלים משיקים עובר בנקודת ההשקה.

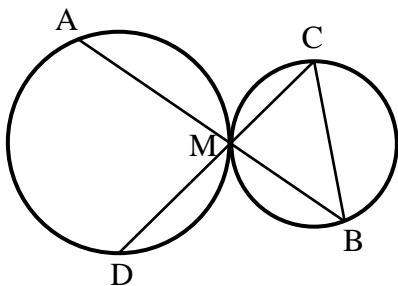
### שאלות:



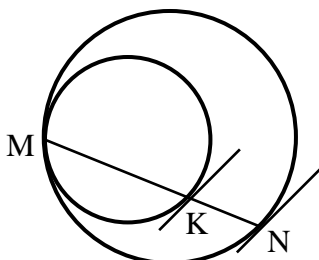
- 42 נתונים שני מעגלים בעלי מרכז משותף O. דרך שתי נקודות E ו-F שעל היקף המעגל הפנימי מעבירים משיקים אשר חותכים את המעגל החיצוני בנקודות A, B, C ו-D. הוכח כי המיתרים AB ו-CD הנוצרים באופן זה שווים.



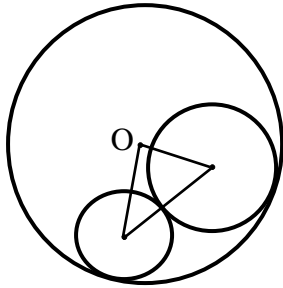
- 43 שני מעגלים M ו-N נחתכים בנקודות A ו-B. הישר CD עובר דרך הנקודה A מעבירים משיק למעגל M בנקודה B החותך את המעגל N בנקודה K. הוכח כי:  $CK \parallel BD$ .



- 44 שני מעגלים משיקים זה לזה מבחוץ בנקודה M. דרך הנקודה M מעבירים שני ישרים חותכים האחד חותך את המעגל השמאלי בנקודה A ואת הימני בנקודה B והאחר חותך את המעגל השמאלי בנקודה D ואת הימני בנקודה C. הוכח כי  $AD \parallel BC$ .

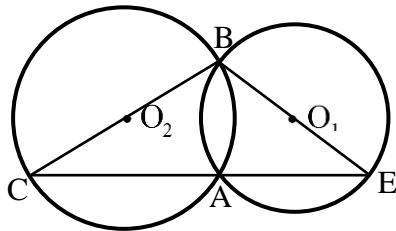


- 45 שני מעגלים משיקים זה לזה מבפנים בנקודה M. מעבירים מיתר MN במעגל החיצוני אשר חותך את המעגל הפנימי בנקודה K. הוכח כי המשיקים לשני המעגלים בנקודות N ו-K מקבילים זה לזה.



- 46) המעגלים שמרכזיהם M ו-G משיקים מבחוץ זה לזה ומשיקים מבפנים למעגל שמרכזו O. נתון כי רדיוס המעגל שמרכזו O הוא 8 ס"מ. חשב את היקף המשולש  $OMG$ .

- 47) שני מעגלים שמרכזיהם  $O_1$  ו- $O_2$  נחתכים בנקודות A ו-B. מעבירים את הקטרים BC ו-BE.



- א. הוכח כי הנקודות C, E ו-A נמצאות על ישר אחד.  
ב. הוכח כי  $O_1O_2$  הוא קטע אמצעים במשולש BCE.

### תשובות סופיות:

- 42) שאלת הוכחה.  
43) שאלת הוכחה.  
44) שאלת הוכחה.  
45) שאלת הוכחה.  
46) 16 ס"מ.  
47) שאלת הוכחה.

## מעגל חוסם ומעגל חסום:

### סיכום כללי:

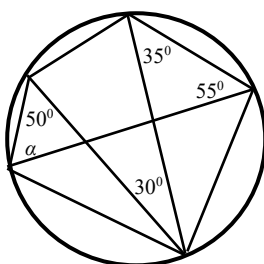
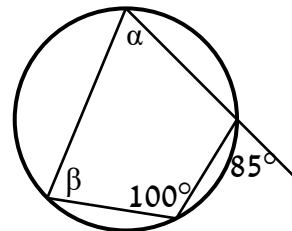
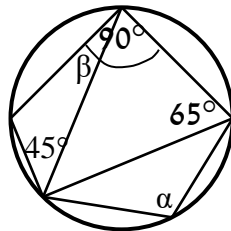
#### משפטים העוסקים במעגל חוסם ומעגל חסום:

1. מרכז מעגל החוסם משולש הוא מפגש האנכים האמצעיים במשולש.
2. מרכז מעגל החסום במשולש הוא מפגש חוצי הזווית במשולש.
3. במרובע החסום במעגל, סכום כל שתי זוויות נגדיות הוא  $180^\circ$ .  
(משפט הפוך) אם במרובע סכום זוג זוויות נגדיות הוא  $180^\circ$ , המרובע בר חסימה במעגל.
4. במרובע החוסם מעגל סכום זוג צלעות נגדיות שווה לסכום הזוג השני.  
(משפט הפוך) אם במרובע סכום זוג צלעות נגדיות שווה לסכום הזוג השני אז ניתן לחסום בתוכו מעגל.
5. כל מצולע משוכלל ניתן לחסום במעגל וניתן לחסום בתוכו מעגל.

### שאלות:

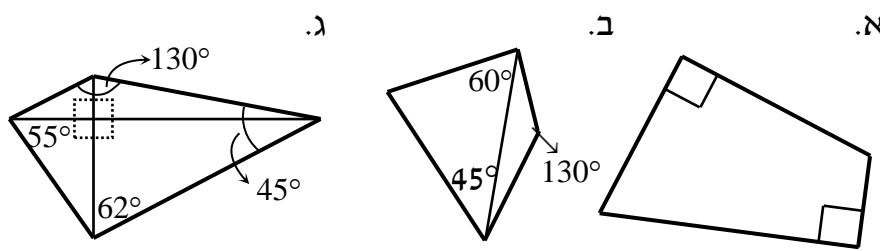
- 48** AD הוא התיכון לצלע BC במשולש ABC.  
 א. הוכח: אם מרכז המעגל החסום במשולש ABC נמצא על AD אז המשולש ABC הוא שווה שוקיים.  
 ב. בהמשך לסעיף א', האם מרכז המעגל החוסם את משולש ABC נמצא על AD?

- 49** מצא את הנעלמים בכל אחד מהסרטוטים שלפניך:  
 א.  
 ב.

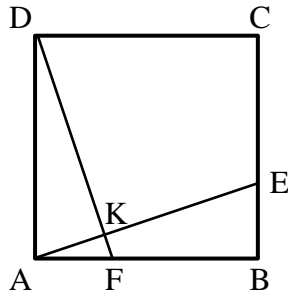


- 50** חשב את גודלה של הזווית  $\alpha$  בסרטוט הבא:

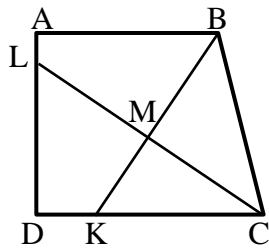
51) קבע אלו מהמרובעים הבאים ניתן לחסום במעגל:



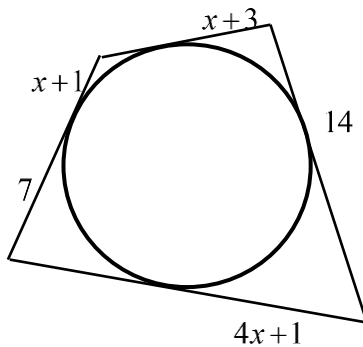
52) בריבוע ABCD נתון כי  $AF = BE$ . הנקודה K היא חיתוך של הקטעים AE ו-DF. הוכח כי את המרובע DKEC ניתן לחסום במעגל.



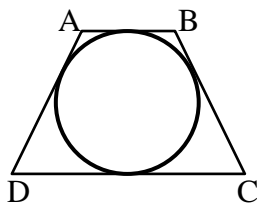
53) בטרפז ישר זווית ABCD שבו השוק AD מאונכת לבסיסים AB ו-DC הנקודות K ו-L נמצאות על הצלעות DC ו-AD בהתאמה, כך שהקטעים BK ו-CL הם חוצי הזוויות B ו-C בהתאמה. חוצי הזוויות נפגשים בנקודה M. הוכח: את המרובע DKML ניתן לחסום במעגל. הערה: בסרטון השאלה מוצגת ללא הסרטוט הנתון.



54) חשב את גודלו של  $x$  בשרטוט הבא:



55) בטרפז שווה שוקיים ABCD ( $AB \parallel CD$ ) שהיקפו 60 ס"מ וזוויות הבסיס החדות שלו הן  $60^\circ$  חסום מעגל. מצא את אורכי צלעות הטרפז.



**תשובות סופיות:**

(48) שאלת הוכחה.

(49) א.  $\alpha = 80^\circ$ ,  $\beta = 85^\circ$       ב.  $\alpha = 110^\circ$ ,  $\beta = 20^\circ$ .

(50)  $\alpha = 70^\circ$ .

(51) ניתן לחסום את מרובע אי בלבד.

(52) שאלת הוכחה.

(53) שאלת הוכחה.

(54)  $x = 2$

(55) 15 ס"מ, 15 ס"מ, 7.5 ס"מ, 22.5 ס"מ.

## שטחים והיקפים במעגל:

### שאלות:

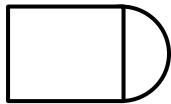
56) ענה על השאלות הבאות:

א. היקפו של עיגול הוא 44 ס"מ. חשב את שטחו.

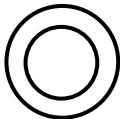


ב. הצורה שבאיור היא  $\frac{3}{4}$  עיגול.

היקף הצורה שווה ל-45 ס"מ.  
חשב את אורך הרדיוס של העיגול.

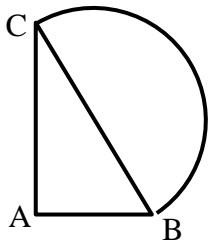


ג. שטח צורה המורכבת מריבוע וחצי עיגול הוא 30 סמ"ר.  
חשב את רדיוס חצי העיגול.



ד. שטח טבעת הוא  $55\pi$  סמ"ר.

הרדיוס הפנימי הוא 3 ס"מ.  
חשב את הרדיוס החיצוני של הטבעת.



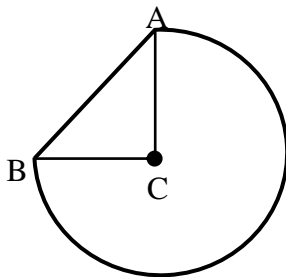
57) נתון משולש ישר זווית ABC, ( $\sphericalangle A = 90^\circ$ ).

על היתר BC בונים חצי עיגול.

נתון:  $AB = 10$  ס"מ,  $AC = 24$  ס"מ,  $BC = 26$  ס"מ.

א. חשב את היקף הצורה המורכבת.

ב. חשב את שטח הצורה המורכבת.



58) באיור שלפניך שלושה רבעי עיגול החסומים

ע"י הקטע AB ומשולש ישר זווית ABC (C מרכז העיגול).

ידוע כי רדיוס העיגול הוא 14 ס"מ

וכי אורך הקטע AB הוא 19.8 ס"מ.

א. חשב את היקף הצורה המורכבת.

ב. חשב את שטח הצורה המורכבת.

59) באיור שלפניך נתון טרפז שווה שוקיים ABCD, ( $AB \parallel CD, AD = BC$ ).

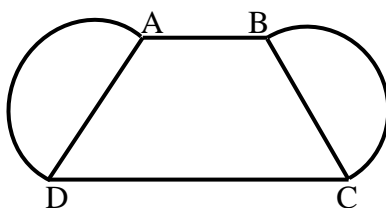
על שוקי הטרפז בונים חצאי עיגולים.

נתון:  $AB = 10$  ס"מ,  $CD = 16$  ס"מ,  $BC = 12$  ס"מ.

אורך גובה הטרפז הוא 11.6 ס"מ.

א. חשב את היקף הצורה המורכבת.

ב. חשב את שטח הצורה המורכבת.



**60** נתון טרפז  $ABCD$ ,  $(AB \parallel CD)$ . מעבירים את האלכסון  $AC$  אשר מאונך

לבסיסים  $AB$  ו- $DC$  של הטרפז. על השוק  $BC$  בונים חצי עיגול.

נתון:  $AB = 24$  ס"מ,  $AC = 18$  ס"מ.

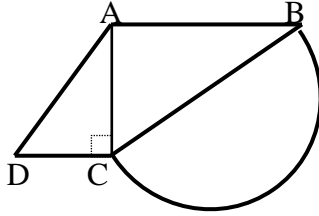
שטח הטרפז הוא  $283.5$  סמ"ר.

א. מצא את הבסיס  $DC$ .

ב. חשב את רדיוס העיגול.

ג. חשב את היקף הצורה המורכבת.

ד. חשב את שטח הצורה המורכבת.



**61** המרובע  $ABCD$  הוא מקבילית.

על הצלעות  $AD$  ו- $BC$  בונים שני חצאי עיגול זהים בעלי רדיוס  $R$ .

מעבירים את האלכסון  $AC$ .

ידוע כי האלכסון  $AC$  מאונך לצלע  $BC$ .

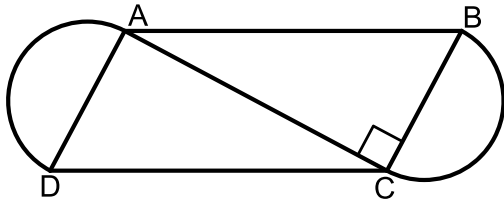
נתון:  $AB = 4R + 1$ ,  $AC = 4R - 1$ .

א. מצא את רדיוס העיגולים,  $R$ .

ב. חשב את היקף המקבילית  $ABCD$ .

ג. חשב את השטח של הצורה המורכבת

מהמקבילית ושני חצאי העיגולים.



**62** נתון מעגל שאורך רדיוסו הוא  $16$  ס"מ.

חשב את אורך הקשת ואת שטח הגזרה המתאימות לזווית מרכזית

בכל אחד מהמקרים הבאים:

א.  $60^\circ$

ב.  $45^\circ$

ג.  $270^\circ$

ד.  $17^\circ$

**63** על הרדיוס  $OA$  של מעגל  $O$  בונים חצי מעגל אשר קוטרו הוא  $OA$ .

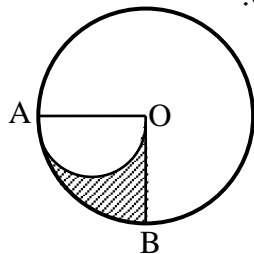
ידוע כי  $\angle BOA = 90^\circ$ .

א. חשב את השטח המקווקו  $OBA$

אם ידוע כי  $OA = 10$  ס"מ.

ב. הוכח באופן כללי כי שטח הגזרה  $OBA$

שווה לשטח חצי מעגל אשר קוטרו הוא  $OA$ .

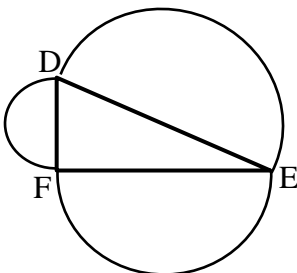


**64** על הצלעות של משולש ישר זווית  $\triangle DEF$  ( $\angle F = 90^\circ$ )

בונים חצאי מעגלים.

הוכח כי שטח חצי המעגל הבנוי על היתר שווה

לסכום שטחי חצאי המעגלים הבנויים על הניצבים.



## תשובות סופיות:

- (56) א.  $S = \frac{484}{\pi}$  סמ"ר  
 ב.  $R = 6.706$  ס"מ  
 ג.  $R = 2.32$  ס"מ  
 ד.  $R = 8$  ס"מ
- (57) א.  $P = 74.84$  ס"מ  
 ב.  $S = 385.46$  סמ"ר
- (58) א.  $P = 85.77$  ס"מ  
 ב.  $S = 559.814$  סמ"ר
- (59) א.  $P = 63.7$  ס"מ  
 ב.  $S = 263.89$  סמ"ר
- (60) א.  $DC = 7.5$  ס"מ  
 ב.  $R = 15$  ס"מ  
 ג.  $P = 98.12$  ס"מ  
 ד.  $S = 636.929$  סמ"ר
- (61) א.  $R = 4$  ס"מ  
 ב.  $P_{ABCD} = 50$  ס"מ  
 ג.  $S = 120 + 16\pi \approx 170.26$  סמ"ר
- (62) א.  $l = 5\frac{1}{3}\pi$  ס"מ,  $S = 42\frac{2}{3}\pi$  סמ"ר  
 ב.  $l = 4\pi$  ס"מ,  $S = 32\pi$  סמ"ר
- (63) א.  $12.5\pi$  סמ"ר  
 ב. שאלת הוכחה.
- (64) שאלת הוכחה.
- ג.  $l = 24\pi$  ס"מ,  $S = 192\pi$  סמ"ר  
 ד.  $l = 1.51\pi$  ס"מ,  $S = 12.08\pi$  סמ"ר

# קורס מתמטיקה להנדסאי טכנולוגיות מים

פרק 16 - טריגונומטריה במשולש ישר זווית

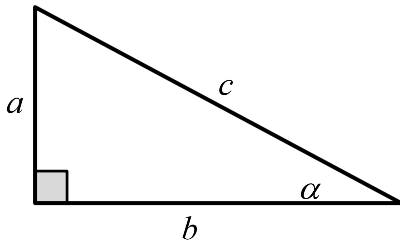
תוכן העניינים

1. משולש ישר זווית..... 254

## משולש ישר זווית:

### סיכום כללי:

#### הגדרות הפונקציות הטריגונומטריות:



$$\sin \alpha = \frac{\text{הניצב שמול הזווית}}{\text{היתר}} = \frac{a}{c}$$

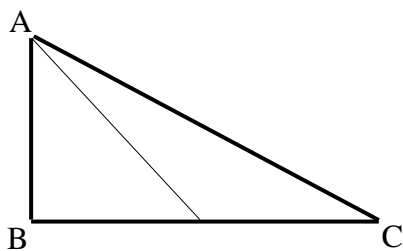
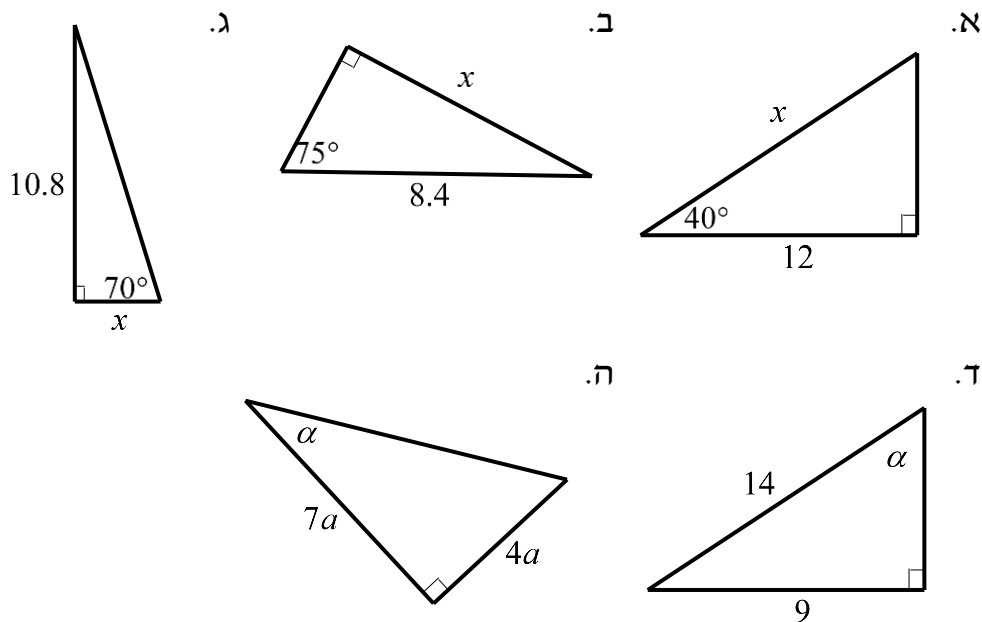
$$\cos \alpha = \frac{\text{הניצב שליד הזווית}}{\text{היתר}} = \frac{b}{c}$$

$$\tan \alpha = \frac{\text{הניצב שמול הזווית}}{\text{הניצב שליד הזווית}} = \frac{a}{b}$$

$$a^2 + b^2 = c^2: \text{משפט פיתגורס}$$

### שאלות:

1) מצא את ערכו של  $\alpha/x$  במשולשים ישרי הזווית הבאים:



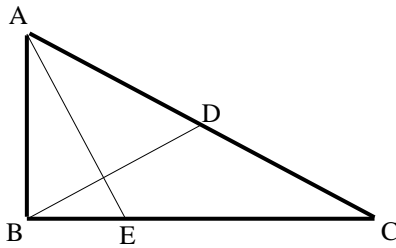
2) המשולש ABC שבציור הוא משולש

ישר זווית ( $\sphericalangle B = 90^\circ$ ).

AD הוא התיכון לניצב BC.

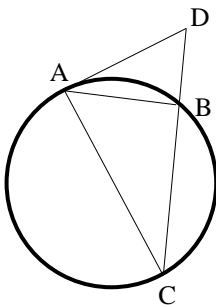
נתון:  $\sphericalangle C = 28^\circ$ ,  $AB = 6$  ס"מ.

מצא את AD ואת  $\sphericalangle BAD$ .



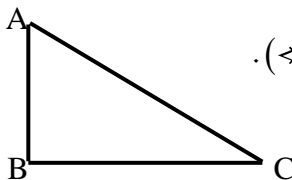
- (3) המשולש ABC שבציור הוא משולש ישר זווית ( $\angle B = 90^\circ$ ). BD הוא התיכון ליתר ו-AE הוא חוצה הזווית  $\angle A$ . נתון:  $BC = 8$  ס"מ,  $BD = 5.6$  ס"מ. מצא את BE ואת  $\angle BAE$ .

- (4) מצא את זוויותיו של מעוין שאורכי אלכסונו 24 ס"מ ו-18 ס"מ.

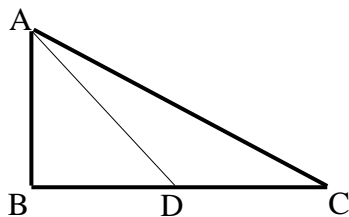


- (5) המשולש ABC חסום במעגל כך שהצלע AC היא קוטר המעגל. המשיק למעגל בנקודה A והמשך הצלע CB נפגשים בנקודה D. נתון:  $BD = 4$  ס"מ,  $\angle DAB = 32^\circ$ . מצא את אורכו של רדיוס המעגל.

- (6) במשולש שווה שוקיים שבו השוק ארוכה ב-4 ס"מ מהבסיס נתון כי זווית הראש היא  $34.92^\circ$ . מצא את שטח המשולש.

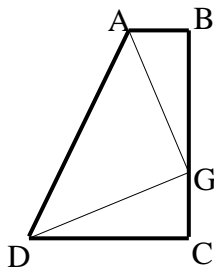


- (7) המשולש ABC שבציור הוא משולש ישר זווית ( $\angle B = 90^\circ$ ). נתון:  $AB = a$ ,  $\angle A = \alpha$ . הבע באמצעות  $\alpha$  ו- $a$  את היקף המשולש.

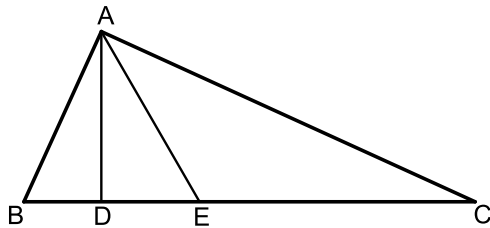


- (8) המשולש ABC שבציור הוא משולש ישר זווית ( $\angle B = 90^\circ$ ). AD הוא התיכון לניצב BC. נתון:  $AB = b$ ,  $\angle C = \alpha$ . הבע באמצעות  $\alpha$  ו- $b$  את אורכי הקטעים AD ו-BD.

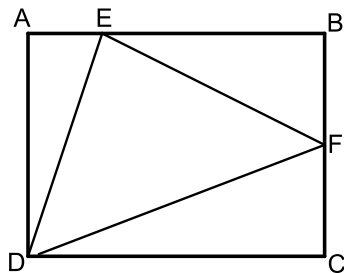
- (9) במשולש ישר זווית אחת הזוויות החדות היא  $\alpha$  ואורך חוצה הזווית זו הוא  $k$ . הבע באמצעות  $\alpha$  ו- $k$  את שטח המשולש ואת אורך היתר.



- 10** טרפז ABCD הוא טרפז ישר זווית ( $\angle B = \angle C = 90^\circ$ ). הנקודה G נמצאת על השוק BC כך ש- $AG \perp DG$ . נתון:  $\angle BAG = \beta$ ,  $AG = DG = m$ . הבע באמצעות  $\beta$  ו- $m$  את שטח הטרפז.



- 11** המשולש ABC הוא ישר זווית ( $\angle A = 90^\circ$ ). הקטעים AD ו-AE הם בהתאמה גובה ליתר וחוצה זווית. מסמנים:  $\angle DAE = \alpha$ ,  $DE = k$ .  
 א. הבע באמצעות  $k$  ו- $\alpha$  את שטח המשולש ABC.  
 ב. חשב את שטח המשולש ABC אם ידוע כי:  $\alpha = 30^\circ$  ו- $k = 2$ .

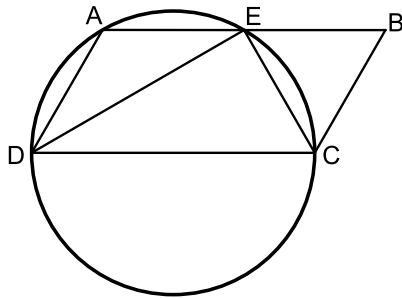


- 12** במלבן ABCD מסמנים את הנקודות E ו-F הנמצאות על הצלעות AB ו-BC בהתאמה כך ש-E מקיימת:  $3AE = BE$  ו-F היא אמצע הצלע BC. אורך הצלע AD שווה לאורך הקטע BE. מעבירים את הקטעים EF, DF ו-DE כך שנוצר במשולש DEF.  
 א. סמן ב- $t$  את אורך הקטע AE והבע באמצעות  $t$  את אורכי צלעות המשולש DEF.  
 ב. חשב את זוויות המשולש EDF.

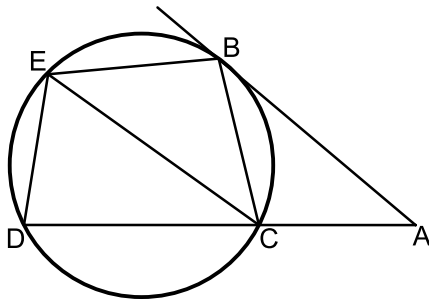
- 13** משולש שווה שוקיים שאורך שוקו  $k$  וזווית הבסיס שלו היא  $\beta$  חוסם מעגל. הבע באמצעות  $\beta$  ו- $k$  את רדיוס המעגל.

- 14** בטרפז ישר זווית חסום מעגל. אורך השוק הארוכה בטרפז היא  $b$  והזווית שהיא יוצרת עם הבסיס הגדול היא  $\alpha$ . הבע באמצעות  $\alpha$  ו- $b$  את אורכו של הבסיס הגדול בטרפז ואת שטחו.

הערה: השאלות הבאות משלבות ידע בגיאומטריה ובטריגונומטריה יחד:



- 15) דרך הקודקודים A, C ו-D של המקבילית ABCD מעבירים מעגל. היקף המעגל חוצה את הצלע AB בנקודה E,  $(AE = BE)$ . נתון כי DC הוא קוטר במעגל וכי המיתר DE חוצה את זווית D.
- הוכח כי המיתר CE חוצה את זוויות C.
  - רדיוס המעגל יסומן ב-R. הבע באמצעות R את היקף המקבילית.
  - מצא את רדיוס המעגל אם ידוע כי שטח המקבילית הוא  $16\sqrt{3}$  סמ"ר.



- 16) מהנקודה A שמחוץ למעגל מעבירים משיק AB וישר חותך ACD. מעבירים את המיתרים BC ו-BE אשר זהים באורכם. כמו כן מעבירים את המיתר DE. אורך המיתר CE שונה מאורך המשיק AB.
- הוכח כי המרובע ABEC הוא טרפז.
  - הוכח כי:  $\angle BEC = 2 \cdot \angle EDC$ .
  - נתונים:  $\angle A = 40^\circ$ ,  $AC = 6$  ס"מ,  $AB = 9$  ס"מ,  $CE = 8$  ס"מ. חשב את שטח המרובע ABEC.

## תשובות סופיות:

$$(1) \quad \text{א. } x = 15.665 \quad \text{ב. } x = 8.114 \quad \text{ג. } x = 3.931 \quad \text{ד. } \alpha = 40.005^\circ \quad \text{ה. } \alpha = 29.745^\circ$$

$$(2) \quad AD = 8.236 \text{ ס"מ}, \quad \angle BAD = 43.24^\circ$$

$$(3) \quad BE = 3.294 \text{ ס"מ}, \quad \angle BAE = 22.792^\circ$$

$$(4) \quad 73.74^\circ, 73.74^\circ, 106.26^\circ, 106.26^\circ$$

$$(5) \quad R = 6.04 \text{ ס"מ}$$

$$(6) \quad S = 28.618 \text{ סמ"ר}$$

$$(7) \quad P = a \left( 1 + \tan \alpha + \frac{1}{\cos \alpha} \right)$$

$$(8) \quad AD = \sqrt{b^2 + \frac{b^2}{4 \tan^2 \alpha}}, \quad BD = \frac{b}{2 \tan \alpha}$$

$$(9) \quad AC = \frac{k \cos \frac{\alpha}{2}}{\cos \alpha}, \quad S = \frac{k^2 \cos^2 \frac{\alpha}{2} \tan \alpha}{2}$$

$$(10) \quad \frac{(m \sin \beta + m \cos \beta)^2}{2}$$

$$(11) \quad \text{א. } S = \frac{k^2}{\cos 2\alpha \tan^2 \alpha} \quad \text{ב. } 24 \text{ סמ"ר}$$

$$(12) \quad \text{א. } DE = t\sqrt{10}, EF = t\sqrt{11.25}, DF = t\sqrt{18.25} \quad \text{ב. } 81.86^\circ, 51^\circ, 47.14^\circ$$

$$(13) \quad R = k \cos \beta \tan \frac{\beta}{2}$$

$$(14) \quad \frac{1}{2} b \sin \alpha + \frac{\frac{1}{2} b \sin \alpha}{\tan \frac{\alpha}{2}}, \quad S = \frac{1}{2} b^2 \sin \alpha (1 + \sin \alpha)$$

$$(15) \quad \text{א. שאלת הוכחה.} \quad \text{ב. } 6R \quad \text{ג. } 4 \text{ ס"מ}$$

$$(16) \quad \text{א. שאלת הוכחה.} \quad \text{ב. שאלת הוכחה.} \quad \text{ג. } 32.78 \text{ סמ"ר}$$

# קורס מתמטיקה להנדסאי טכנולוגיות מים

פרק 17 - טריגונומטריה במישור

תוכן העניינים

1. שאלות יסודיות עם משפט הסינוסים והקוסינוסים ..... 259
2. שאלות העוסקות בנוסחת שטח משולש ..... 267
3. שאלות המשלבות ידע בגיאומטריה ..... 276
4. שאלות מסכמות ..... 280

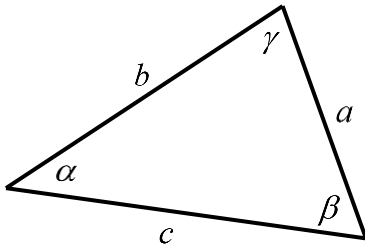
## שאלות יסודיות עם משפט הסינוסים והקוסינוסים:

### סיכום כללי:

#### משפט הסינוסים:

במשולש, צלע חלקי סינוס הזווית שמולה הוא גודל קבוע והוא שווה לפעמיים רדיוס המעגל החוסם.

$$\frac{a}{\sin \alpha} = \frac{b}{\sin \beta} = \frac{c}{\sin \gamma} = 2R$$



#### משפט הקוסינוסים:

במשולש, ריבוע צלע אחת שווה לסכום ריבועי שתי הצלעות האחרות פחות מכפלתן

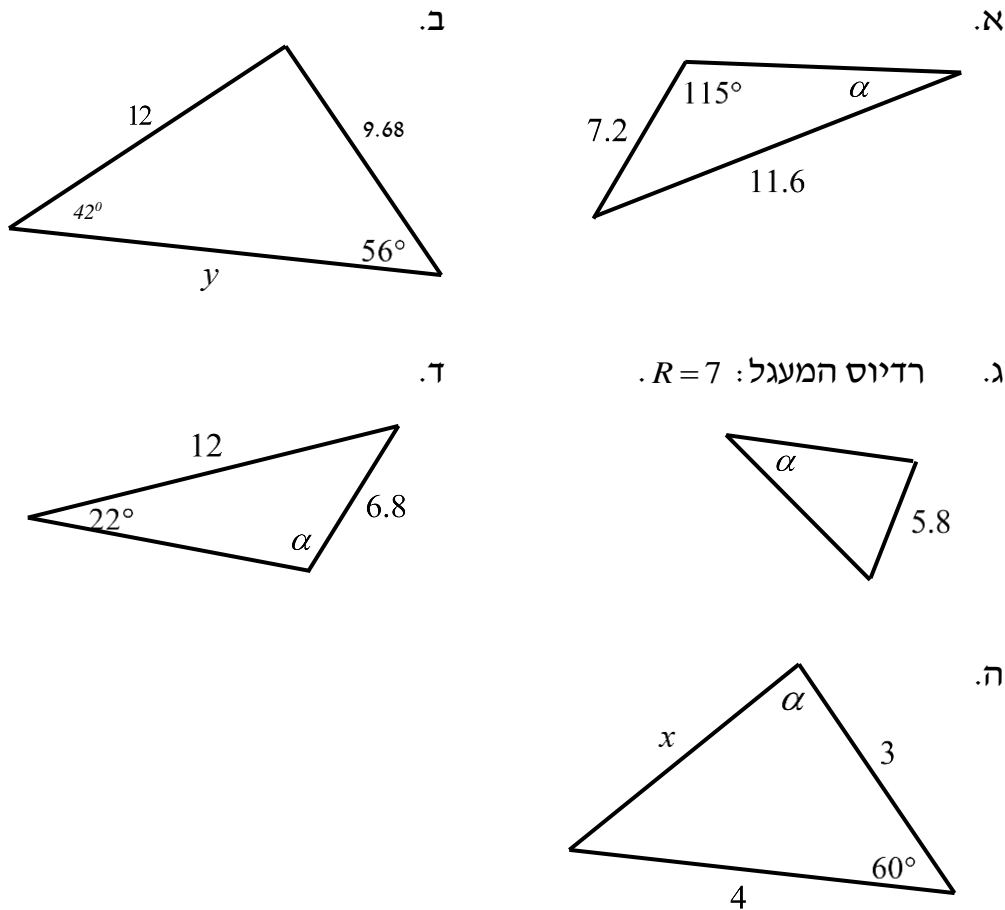
$$c^2 = a^2 + b^2 - 2ab \cos \gamma \quad \text{או} \quad \cos \gamma = \frac{a^2 + b^2 - c^2}{2ab}$$

#### מתי נשתמש בכל משפט:

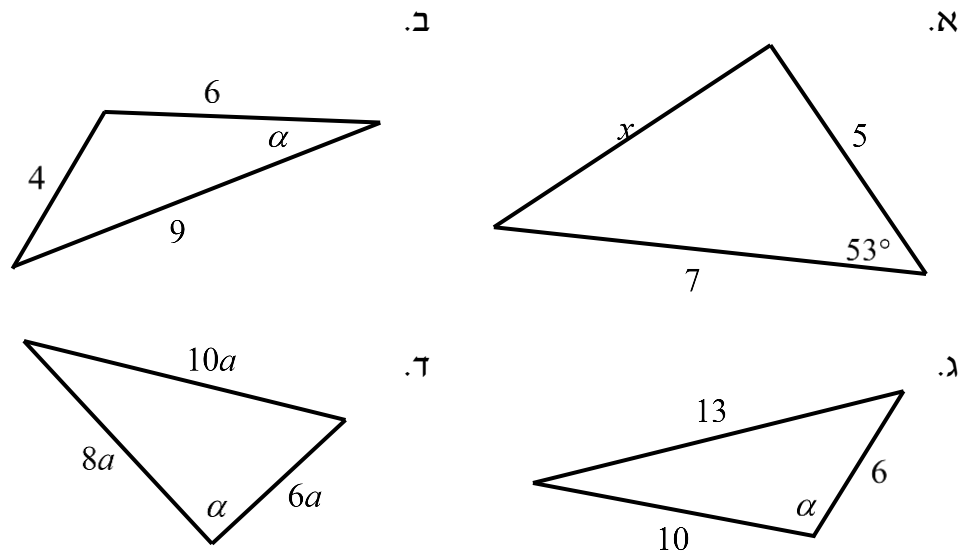
- נשתמש במשפט הסינוסים כאשר:
  - נתונות שתי זוויות וצלע.
  - נתונות שתי צלעות והזווית מול אחת מהן.
  - נתון רדיוס המעגל החוסם וצלע/זווית נוספת.
- נשתמש במשפט הקוסינוסים כאשר:
  - נתונות שתי צלעות והזווית ביניהן.
  - נתונות שלוש צלעות.
- כאשר ישנם יותר נתונים מאשר בסעיפים שלהלן ייתכן שנוכל להשתמש בשני המשפטים. בבחירת המשפט שבו נשתמש כדאי לזכור שבמשפט הסינוסים ייתכנו שתי תשובות לזווית, גם אם בפועל רק אחת נכונה, ובמשפט הקוסינוסים תתקבל בוודאות הזווית הנכונה.

**שאלות:**

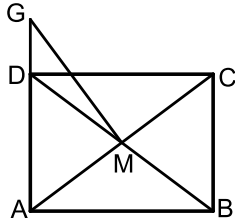
1 מצא את ערכו של  $a/x/y$  במשולשים הבאים (R הוא רדיוס המעגל החוסם, נתוני הצלעות בס"מ):



2 מצא את ערכו של  $\alpha/x$  במשולשים הבאים:

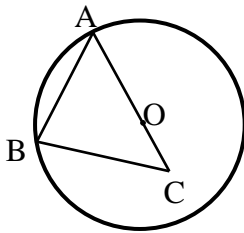


- (3) נתון משולש שווה שוקיים  $ABC$  ( $AB=AC$ ) שאורך השוק שלו הוא 22 ס"מ וגודלה של זווית הבסיס בו הוא  $70^\circ$ .  $CD$  הוא חוצה זווית הבסיס  $C$ . מצא את אורכו של הקטע  $AD$ .



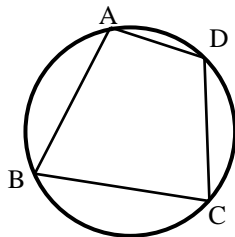
- (4) אלכסוני המלבן  $ABCD$  נפגשים בנקודה  $M$ . הנקודה  $G$  נמצאת על המשך הצלע  $AD$ . נתון:  $AD = 3$  ס"מ,  $AB = 4$  ס"מ,  $DG = 1.2$  ס"מ. מצא את גודלו של הקטע  $GM$ .

- (5) מרובע שאורכי אלכסוניו 8 ס"מ ו-11 ס"מ חסום במעגל שאורך רדיוסו הוא 6 ס"מ. חשב את זוויות המרובע.

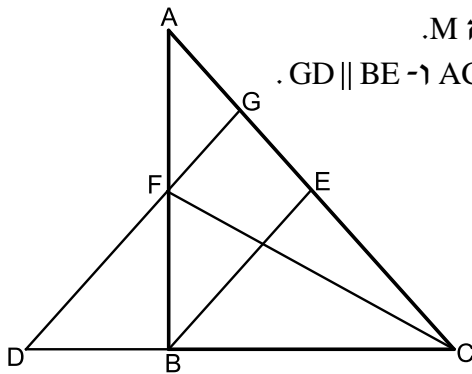


- (6) הצלע  $AB$  במשולש  $ABC$  היא מיתר במעגל שמרכזו  $O$ . הצלע  $AC$  עוברת במרכז המעגל כמתואר בשרטוט. נתון:  $BC = 9$  ס"מ,  $OC = 3$  ס"מ,  $\angle BAC = 38^\circ$ . מצא את אורכם של רדיוס המעגל ושל הצלע  $AB$ .

- (7) אחד האלכסונים במקבילית יוצר זווית של  $30^\circ$  עם צלע אחת של המקבילית וזווית של  $61.05^\circ$  עם הצלע הסמוכה לה. אחת מצלעות המקבילית גדולה ב-3 ס"מ מהצלע הסמוכה לה. חשב את היקף המקבילית.



- (8) המרובע  $ABCD$  חסום במעגל. נתון:  $AB = 6$  ס"מ,  $BC = 9$  ס"מ,  $CD = 10$  ס"מ ו- $AD = 4$  ס"מ. מצא את אורכם של האלכסון  $AC$  ושל רדיוס המעגל.



9) BE ו-CF הם תיכונים במשולש ABC הנפגשים בנקודה M.

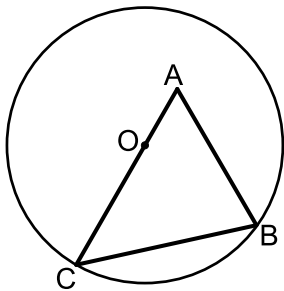
מהנקודה F מעבירים קטע GD כך שמתקיים:  $AC = DC$  ו- $GD \parallel BE$ .

א. הוכח:  $\frac{AG}{BD} = \frac{3}{4}$ .

ב. נתון כי:  $ME = 4$  ס"מ. חשב את אורך הקטע DG.

ג. נתון כי:  $\angle ACD = 48.189^\circ$ . הוכח כי המשולש DGC הוא שווה-שוקיים.

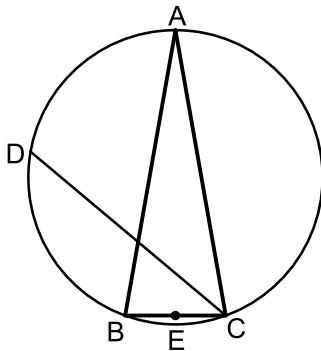
10) נתון משולש ABC. הקודקודים B ו-C של המשולש ABC נמצאים על מעגל שמרכזו O. מרכז המעגל O מונח על הצלע AC. אורך הצלע AB הוא 12 ס"מ ואורך הקטע AO הוא 4.5 ס"מ. זווית BAC היא  $60^\circ$ .



א. חשב את רדיוס המעגל.

ב. מעבירים את הקוטר BD ואת הקטע AD כך שנוצר המשולש ADB. חשב את זווית ADB.

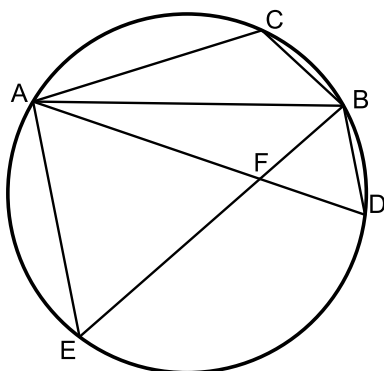
11) המשולש ABC הוא שווה שוקיים ( $AB = AC$ ) החסום במעגל שרדיוסו R. הנקודה E היא אמצע הבסיס BC והנקודה D היא אמצע הקשת  $\widehat{AB}$ . ידוע כי זווית הבסיס של המשולש היא  $80^\circ$ .



א. הבע באמצעות R את הקטעים CD ו-DE.

ב. r הוא רדיוס המעגל החוסם את המשולש CED. הבע באמצעות R את r.

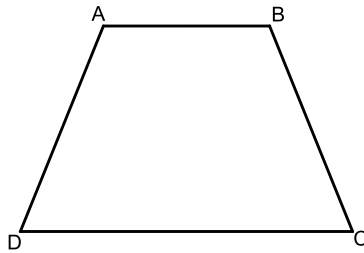
12) AB, AC ו-AD הם מיתרים במעגל המקיימים:  $\widehat{BC} = \widehat{BD}$ . מהנקודה E שעל המעגל מעבירים את המיתרים AE ו-BE. המיתרים BE ו-AD נחתכים בנקודה F. נתון כי:  $AC = AF = EF$ .



א. הוכח:  $\triangle ABF \cong \triangle ABC$ .

ב. נתון גם:  $\angle CAB = 3 \cdot \angle DAE$ . הוכח כי המשולש AFE הוא שווה צלעות.

**13** המרובע ABCD הוא טרפז שווה שוקיים ( $AB \parallel CD, AD = BC$ ).

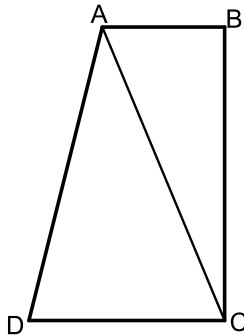


מידות הטרפז הן:

$AB = 6$  ס"מ,  $BC = 8$  ס"מ,  $CD = 12$  ס"מ.

- מצא את זווית C (עגל למספר שלם).
- מצא את אורך אלכסון הטרפז.
- חשב את רדיוס המעגל החוסם את הטרפז.

**14** המרובע ABCD הוא טרפז ישר זווית ( $AB \parallel CD, \angle B = 90^\circ$ ).

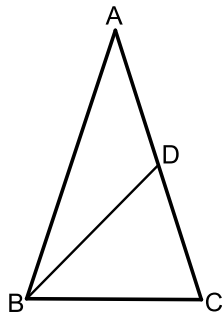


מסמנים את הבסיס:  $AB = t$  וידוע כי:  $AD = 3t, DC = 1.6t$ .  
היקף הטרפז הוא: 40 ס"מ.

- הבע באמצעות  $t$  את אורך האלכסון AC.
  - ידוע גם כי:  $\angle D = 60^\circ$ .
- חשב את אורך הקטע AC.
  - חשב את שטח הטרפז.

**15** המשולש ABC הוא שווה שוקיים ( $AB = AC$ ) בעל זווית

ראש  $36^\circ$  החסום במעגל שקוטרו 16 ס"מ. מעבירים תיכון לשוק BD.



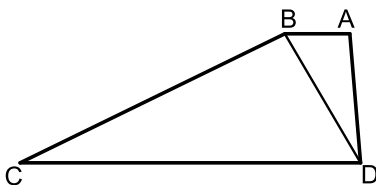
- מצא את אורך הבסיס BC במשולש.
- חשב את אורך התיכון BD.
- מסמנים:

$r_1$  - רדיוס המעגל החוסם את המשולש ABD.  
 $r_2$  - רדיוס המעגל החוסם את המשולש BCD.

$$\frac{r_1}{r_2} = 2 \cos 36^\circ$$

הוכח את היחס הבא:

**16** המרובע ABCD הוא טרפז ( $AB \parallel CD$ ).



מעבירים את האלכסון BD המקיים:  $\angle BCD = \angle ADB$ .  
נתון כי:  $AB = 5$  ס"מ,  $AD = 10$  ס"מ,  $CD = 20$  ס"מ.  
כמו כן ידוע כי השוק BC גדולה פי 2 מהאלכסון BD.

- הראה כי השוק BC שווה לבסיס CD.
- חשב את זווית C.
- ממשיכים את שוקי הטרפז AD ו-BC עד לנקודה E שמחוץ לטרפז.  
חשב את רדיוס המעגל החוסם את המשולש CDE.

17 באיור שלפניך נתון המרובע ABCD.

ידוע כי:  $\angle D = 90^\circ$ .

נסמן את הצלעות באופן הבא:  $AB = 6x$ ,  $BC = 5x$ ,  $CD = 8x$ ,  $AD = 3x$ .

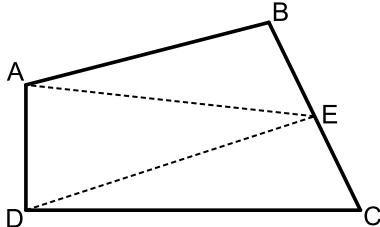
א. חשב את זווית BCD.

ב. E היא נקודה הנמצאת על אמצע הצלע BC.

מעבירים את הקטעים AE ו-DE כך

ש-DE מקביל ל-AB.

חשב את היחס הבא:  $\frac{S_{ABE}}{S_{BCD}}$ .



18 מהנקודה O מעבירים את הקטעים OA, OB, OC ו-OD.

ידוע כי זווית AOB שווה לזווית COD והיא מסומנת ב- $\alpha$ .

המשולש COD הוא ישר זווית  $\angle CDO = 90^\circ$ .

נתונים האורכים:  $BO = 9$ ,  $DO = 10$ .

מסמנים:  $BC = 1.4m$ ,  $CD = 1.5m$ .

א. הבע באמצעות m את  $\sin \alpha$ .

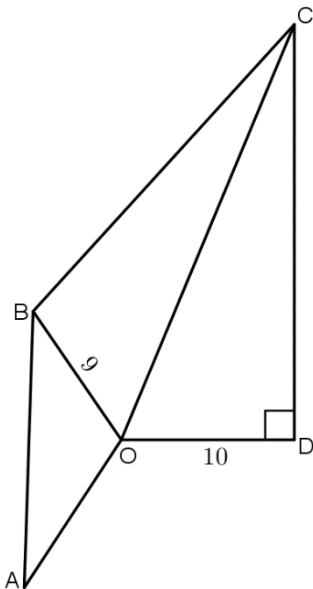
(העזר במשולש COD ובטא תחילה את CO).

ב. נתון גם כי:  $AB = m$ .

מצא את m אם ידוע כי רדיוס המעגל החוסם

את המשולש AOB הוא  $8\frac{2}{3}$ .

ג. חשב את זווית BOC.



19 במשולש ABC הזווית A היא בת  $60^\circ$ .

מעבירים את הקטע AD כך שנוצרת זווית:  $\angle ADB = 60^\circ$ .

ידוע כי  $AB = \sqrt{28}$  וכי הצלע AD במשולש ABD

גדולה פי 1.5 מהצלע BD.

א. מצא את אורך הצלע BD.

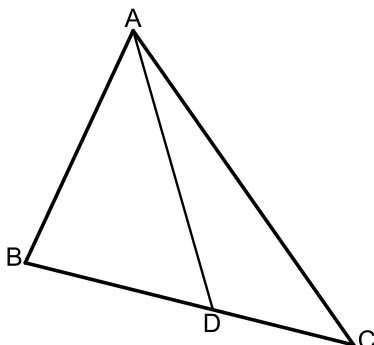
ב. היקף המשולש ABC הוא:  $P = 5\sqrt{7} + 7$ .

i. סמן:  $DC = t$  והבע באמצעות t

את אורך הצלע AC.

ii. מצא את t.

ג. חשב את שטח המשולש ABC.



**(20)** מהנקודה A מעבירים את הקטעים AB ו-AC.

הנקודה D היא אמצע AC וממנה מעבירים את DE המקביל ל-AB.

הנקודות C, E ו-F נמצאות על אותו הישר.

ידוע כי המשולשים ABD, DEF ו-DCE הם

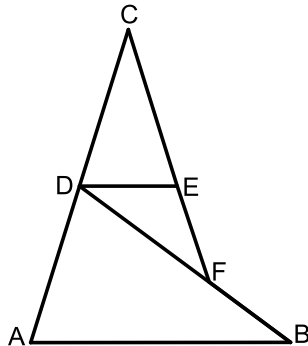
שווי שוקיים ( $AB = BD, DC = CE, EF = DE$ ).

נתון כי:  $AD = 8$ .

א. חשב את אורך הקטע BF.

ב. מחברים את הנקודות B ו-C.

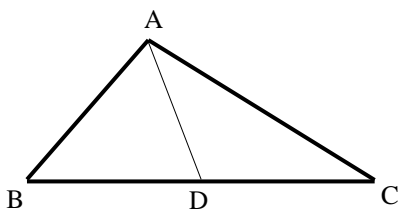
חשב את אורך הצלע BC.



**(21)** בשרטוט נתון:  $AB = 6$  ס"מ,  $AC = 8$  ס"מ,

$AD = 5$  ס"מ. הנקודה D היא אמצע הצלע BC.

חשב את אורך הקטע BC.



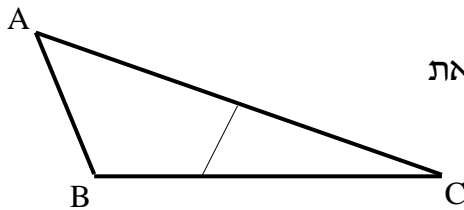
**(22)** הצלע AC במשולש ABC גדולה פי 4 מהצלע AB.

הנקודה E היא אמצע הצלע AC והנקודה D נמצאת

על הצלע BC כך שמתקיים  $DC = 2BD$ .

נתון:  $BC = b, AB = a$ .

הבע באמצעות a ו-b את אורך הקטע DE.

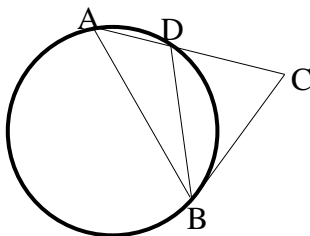


**(23)** המשולש ABD חסום במעגל שרדיוסו R.

המשך הצלע AD והמשיק למעגל בנקודה B

נפגשים בנקודה C. נתון:  $\angle C = \alpha, \angle ADB = \beta$ .

הבע באמצעות R,  $\alpha$  ו- $\beta$  את אורך הקטע BC.

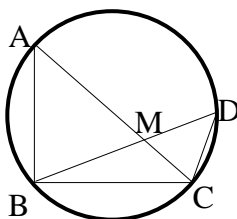


**(24)** AC ו-BD הם מיתרים במעגל שרדיוסו R,

שנפגשים בנקודה M. זווית  $\angle B$  היא זווית ישרה.

נתון:  $DC = q, DM = p, AB = k$ .

הבע באמצעות R, k, p ו-q את אורך הקטע MC.



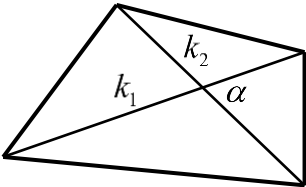
## תשובות סופיות:

- א.  $\alpha = 34.231^\circ$     ב.  $14.33$  ס"מ =  $y$     ג.  $\alpha = 155.526^\circ$  או  $\alpha = 24.474^\circ$     (1)  
 ד.  $\alpha = 41.382^\circ$  או  $\alpha = 138.618^\circ$     ה.  $3.606$  ס"מ =  $x$ ,  $\alpha = 73.898^\circ$   
 א.  $5.646$  ס"מ =  $x$     ב.  $\alpha = 20.742^\circ$     ג.  $\alpha = 105.962^\circ$     ד.  $\alpha = 90^\circ$     (2)  
 AD =  $13.064$  ס"מ    (3)  
 GM =  $3.360$  ס"מ    (4)  
 $66.444^\circ$ ,  $113.556^\circ$ ,  $41.810^\circ$ ,  $138.190^\circ$     (5)  
 $R = 9.242$  ס"מ,  $AB = 14.56$  ס"מ    (6)  
 $P = 22$  ס"מ    (7)  
 $R = 5.395$  ס"מ,  $AC = 10.790$  ס"מ    (8)  
 DG =  $18$     (9)  
 $R = 10.5$  ס"מ    ב.  $24.32^\circ$     (10)  
 א.  $DE = 1.48R$ ,  $CD = R\sqrt{3}$     ב.  $r = 1.15R$     (11)  
 א.  $68^\circ$     ב.  $11.66$  ס"מ    ג.  $R = 6.29$  ס"מ    (13)  
 א.  $AC = \sqrt{32.36t^2 - 448t + 1600}$     ב. i.  $13$  ס"מ    ii.  $78$  סמ"ר    (14)  
 א.  $9.4$  ס"מ    ב. i.  $10$  ס"מ    (15)  
 א.  $\sphericalangle C = 28.9^\circ$     ג.  $R = 13.77$     (16)  
 א.  $64.04^\circ$     ב.  $\frac{S_{ABE}}{S_{ECD}} = 0.817$     (17)  
 א.  $\sin \alpha = \frac{1.5m}{\sqrt{100 + 2.25m^2}}$     ב.  $m = 16$     ג.  $56.94^\circ$     (18)  
 א.  $4$     ב. i.  $1.5\sqrt{28} + 3 - t$     ii.  $3$     ג.  $S = 18.18$     (19)  
 א.  $4.94$  ס"מ    ב.  $17.19$  ס"מ    (20)  
 BC =  $10$  ס"מ    (21)  
 $DE = \sqrt{\frac{1}{9}b^2 - a^2}$     (22)  
 $MC = \sqrt{p^2 + q^2 - \frac{pqk}{R}}$     (24)  
 $BC = \frac{2R \sin \beta \sin(\beta - \alpha)}{\sin \alpha}$     (23)

## שאלות העוסקות בנוסחת שטח משולש:

סיכום כללי:

שטחים של משולשים ומרובעים:

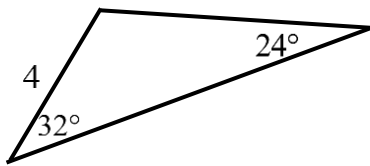


- שטח משולש ניתן לחישוב ע"י:  $S = \frac{a \cdot h}{2} = \frac{ab \sin \gamma}{2} = \frac{a^2 \sin \beta \sin \gamma}{2 \sin \alpha}$
- שטח מרובע ניתן לחישוב ע"י אלכסונו:  $S = \frac{k_1 k_2 \sin \alpha}{2}$

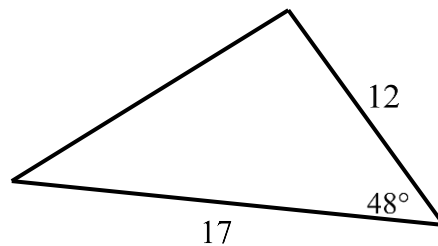
שאלות:

25) חשב את שטחי המשולשים הבאים:

ב.



א.



26) חשב את שטחו של טרפז שווה שוקיים שאורך האלכסון שלו 8 ס"מ והוא יוצר זווית של 15° עם הבסיסים.

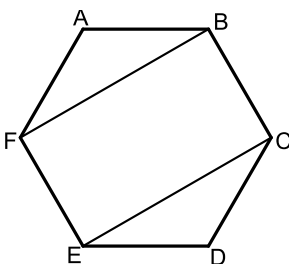
27) אורכו של מלבן הוא  $m$  ורוחבו  $n$ . הזווית שבין אלכסונו המלבן היא  $\theta$ .

$$\text{הוכח כי מתקיים: } \sin \theta = \frac{2mn}{m^2 + n^2}$$

28) במשולש ישר זווית  $ABC$  ( $\sphericalangle B = 90^\circ$ ),  $BD$  חוצה את הזווית  $\sphericalangle B$ .

נתון:  $\sphericalangle A = \alpha$ ,  $AB = m$ .

הבע באמצעות  $\alpha$  ו- $m$  את שטח המשולש  $BCD$ .



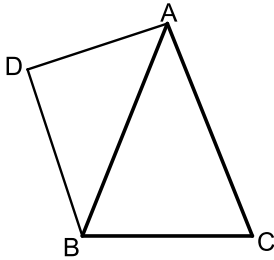
29) באיור שלפניך נתון משושה משוכלל ששטחו הכולל הוא  $S$ .

א. הבע באמצעות  $S$  את אורך צלע המשושה.

ב. מעבירים אלכסונים במשושה כך שנוצר המלבן  $BFEC$ .

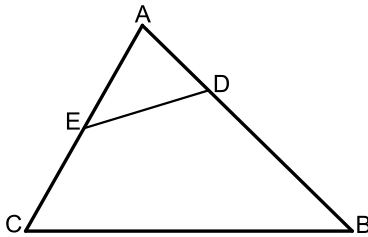
הבע באמצעות  $S$  את שטח המלבן.

**30** המשולש ABC הוא שווה שוקיים בעל זווית ראש  $\alpha$ ,  $(AB = AC)$ . אורך הבסיס BC הוא  $k$ .



- על השוק AB בונים משולש ישר זווית ABD ובו  $\angle D = 90^\circ$ .
- הבע באמצעות  $k$  ו- $\alpha$  את אורך שוק המשולש ABC.
  - הניצב AD במשולש ABD שווה ל- $0.85k$ .
  - וכי:  $\angle ABD = 40^\circ$ . מצא את זוויות המשולש ABC.
  - חשב את שטח המרובע ACBD אם ידוע כי  $k = 6$ .

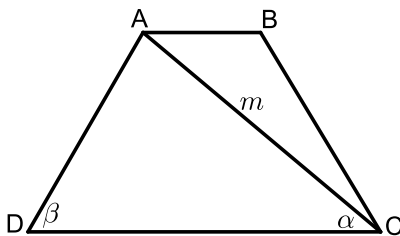
**31** במשולש ABC אורך הצלע AC הוא 8 ס"מ ואורך הצלע AB הוא 10 ס"מ.



- הנקודה E היא אמצע הצלע AC והנקודה D מקיימת:  $AD = 3$  ס"מ.
- ידוע כי:  $\frac{DE}{BC} = \frac{2}{5}$ .

- מצא את אורך הקטע DE.
- חשב את רדיוס המעגל החוסם את המשולש ADE.
- חשב את שטח המרובע BCED.

**32** המרובע ABCD הוא טרפז  $(AB \parallel CD)$ . הקטע AC הוא אלכסון בטרפז.



מסמנים:  $AC = m$ ,  $\angle ACD = \alpha$ ,  $\angle ADC = \beta$ .

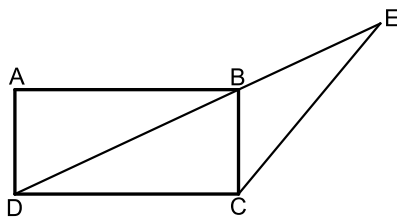
- הבע באמצעות  $\alpha$ ,  $\beta$  ו- $m$  את אורך הבסיס הגדול DC.

ב. נתון כי האלכסון AC מקיים:  $\frac{S_{ADC}}{S_{ABC}} = 3$ .

הבע באמצעות  $\alpha$ ,  $\beta$  ו- $m$  את הבסיס AB.

ג. חשב את שטח הטרפז אם ידוע כי:  $\beta = 60^\circ$ ,  $\alpha = 40^\circ$  ו- $m = 8$ .

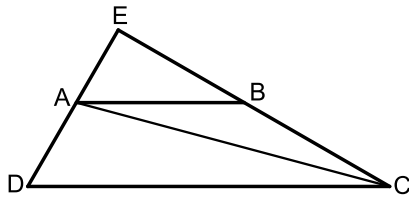
**33** המרובע ABCD הוא מלבן. מעבירים את האלכסון BD וממשיכים אותו עד לנקודה E שמחוץ למלבן.



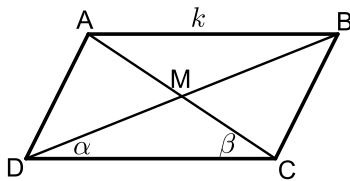
מחברים את הנקודה E עם הקודקוד C.

ידוע כי אורך הצלע AD של המלבן הוא 6 ס"מ וכי אורך הקטע BE הוא 9 ס"מ. הזווית CBE היא  $115^\circ$ .

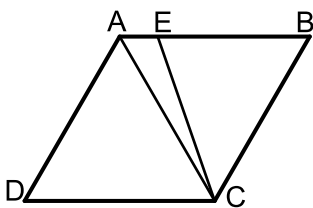
- מצא את אורך הקטע CE.
- מצא את אורך האלכסון BD.
- חשב את שטח המשולש DCE.



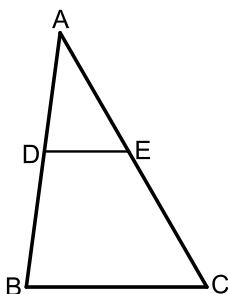
- (34)** המרובע ABCD הוא טרפז  $(AB \parallel CD)$ .  
 ממשיכים את השוקיים AD ו-BC עד לפגישתם  
 בנקודה E. ידוע כי:  $DE \perp CE$ .  
 מעבירים את האלכסון AC אשר חוצה את זווית C.  
 מסמנים את הבסיס הגדול DC ב- $k$  ואת:  $\angle ACD = \alpha$ .  
 א. הבע באמצעות  $k$  ו- $\alpha$  את הבסיס הקטן AB.  
 ב. הבע באמצעות  $k$  ו- $\alpha$  את שטח המשולש ABC.  
 ג. חשב את שטח המשולש ABC כאשר:  $\alpha = 15^\circ$ ,  $12$  ס"מ  $k =$ .



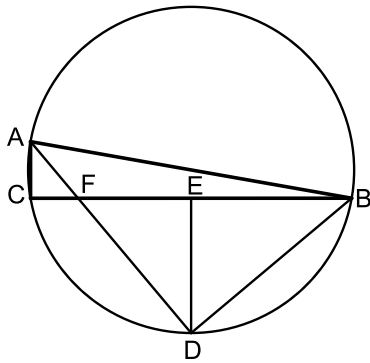
- (35)** נתונה מקבילית ABCD ובה מעבירים  
 את האלכסונים AC ו-BD אשר נחתכים  
 בנקודה M כמתואר באיור.  
 מסמנים:  $AB = k$ ,  $\angle BDC = \alpha$ ,  $\angle ACD = \beta$ .  
 א. הוכח כי אלכסוני המקבילית מקיימים:  
 $\frac{AC}{BD} = \frac{\sin \alpha}{\sin \beta}$ .  
 ב. ענה על השאלות הבאות:  
 i. הבע באמצעות  $\alpha$ ,  $\beta$  ו- $k$  את שטח המשולש DMC.  
 ii. הבע באמצעות  $\alpha$ ,  $\beta$  ו- $k$  את שטח המקבילית ABCD.  
 ג. נתון כי:  $\frac{AC}{BD} = 2$ . הראה כי שטח המקבילית הוא:  
 $\frac{4k^2 \sin^2 \beta}{\sin(\alpha + \beta)}$ .



- (36)** המרובע ABCD הוא מעוין ובו  $\angle D = 60^\circ$ .  
 מעבירים את האלכסון AC ואת הקטע CE  
 כך שהנקודה E נמצאת על הצלע AB ומחלקת  
 אותה ביחס:  $\frac{BE}{AE} = 4$ .  
 א. חשב את זווית AEC.  
 ב. נתון כי שטח המשולש AEC הוא 8.66 סמ"ר. חשב את שטח המעוין.



- (37)** הקטע DE מקביל לצלע BC במשולש ABC כמתואר באיור.  
 נתון כי:  $BC = 15$ ,  $CE = 13$ ,  $BD = \sqrt{129}$ .  
 ידוע כי זווית AED היא  $60^\circ$ .  
 א. חשב את אורך הקטע DE אם ידוע  
 ב. כי הוא קטן מ-10 ס"מ.  
 ג. חשב את שטח המשולש ADE.



**(38)** המשולש ABC חסום במעגל כך ש-AB הוא קוטר.

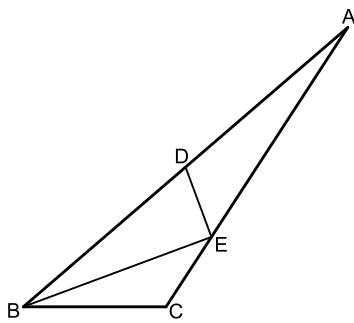
הנקודה D היא אמצע הקשת BC וממנה מעבירים את המיתרים AD ו-BD ומעלים גובה DE לצלע BC.

מסמנים:  $DE = k$  ונתון כי:  $\angle ABC = 10^\circ$ .

א. הבע באמצעות  $k$  את רדיוס המעגל.

ב. הבע באמצעות  $k$  את שטח המשולש ABF.

ג. מצא את  $k$  אם ידוע כי שטח המשולש ABF הוא 15.363 סמ"ר.



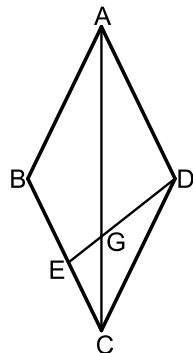
**(39)** במשולש ABC הקטע BE חוצה את זווית B.

הנקודה D היא אמצע הצלע AB ומקיימת:  $DE = CE$ .

ידוע כי:  $BC = 6$ ,  $BE = 8$ ,  $BD = 9$ .

א. מצא את זווית B.

ב. חשב את שטח המשולש ADE.



**(40)** נתון המעוין ABCD. אורך האלכסון הגדול במעוין AC גדול פי 1.8 מצלע המעוין.

א. חשב את זוויות המעוין.

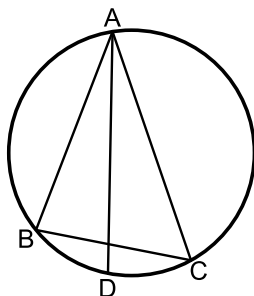
ב. מהקודקוד D מעבירים את הקטע DE שאורכו הוא  $m$ .

הקטע DE חותך את האלכסון AC בנקודה G.

הזווית EDC תסומן ב- $\alpha$ .

i. הבע באמצעות  $m$  ו- $\alpha$  את אורך הקטע CE.

ii. הבע באמצעות  $m$  ו- $\alpha$  את שטח המשולש EGC.



**(41)** המשולש ABC חסום במעגל כמתואר באיור.

מעבירים את המיתר AD החוצה את זווית BAC.

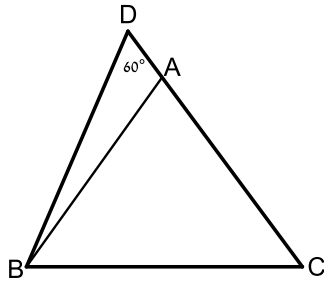
ידוע כי:  $\angle ACB = 60^\circ$ ,  $\angle BAC = 40^\circ$ .

מסמנים:  $AD = k$ .

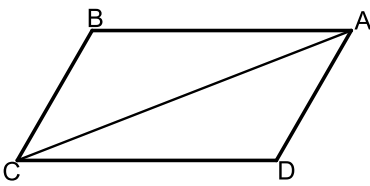
א. הבע באמצעות  $k$  את אורך המיתר BD.

ב. ידוע כי שטח המשולש ABD הוא 7.368 סמ"ר.

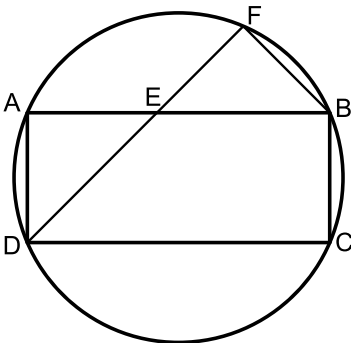
מצא את  $k$  (עגל למספר שלם).



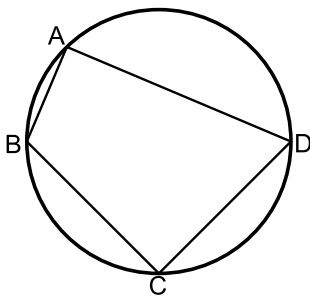
- (42)** המשולש ABC הוא שווה שוקיים ( $AB = AC$ ). ממשיכים את הצלע AC עד לנקודה D כך שאורך שוק המשולש גדולה פי 3.8 מהקטע AD. ידוע כי:  $\angle D = 60^\circ$ . אורך הקטע BD הוא 21 ס"מ.  
א. מצא את אורך הקטע AD.  
ב. חשב את שטח המשולש ABC.



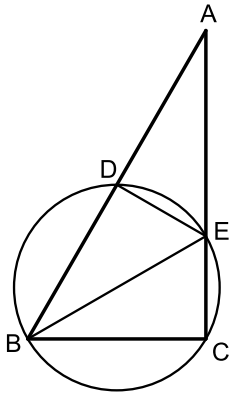
- (43)** במקבילית ABCD אורך האלכסון AC הוא  $\sqrt{79}$  ס"מ. היקף המקבילית הוא 20 ס"מ וידוע כי:  $\angle B = 120^\circ$ .  
א. מצא את אורכי צלעות המקבילית.  
ב. חשב את שטח המקבילית.  
ג. מסמנים נקודה E על האלכסון AC כך שהמרובע CBED הוא בר חסימה. חשב את רדיוס המעגל החוסם את המרובע CBED.



- (44)** המרובע ABCD הוא מלבן החסום במעגל. מהקודקוד D מעבירים את המיתר DF החותך את הצלע AB בנקודה E. ידוע כי:  $\widehat{AF} = \widehat{CF}$ . הצלע AD של המלבן תסומן ב- $a$ .  
א. הוכח כי המשולש DAE שווה שוקיים.  
ב. נתון גם כי:  $BC = BF$ .  
i. הבע באמצעות  $a$  את רדיוס המעגל.  
ii. חשב את הזוויות המרכזיות של הקשתות:  $\widehat{AB}$ ,  $\widehat{BC}$ . (אין צורך לסרטט אותן).



- (45)** המרובע ABCD חסום במעגל כמתואר באיור. ידוע כי:  $AB = b$ ,  $BC = a$ ,  $CD = a$ ,  $AD = 3b$ .  
א. הבע באמצעות  $a$  ו- $b$  את  $\cos \angle BCD$ .  
ב. הוכח כי אם BD קוטר אז מתקיים:  $a = b\sqrt{5}$ .  
ג. נתון כי רדיוס המעגל הוא 3 ס"מ. הסתמך על סעיף ב' וחשב את שטח המרובע ABCD.

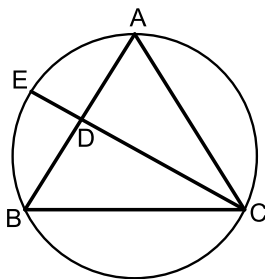


- (46)** המשולש ABC הוא ישר זווית  $\sphericalangle C = 90^\circ$  ובו:  $\sphericalangle B = 2\alpha$ .  
 מעבירים מעגל שרדיוסו R דרך הקודקודים B ו-C אשר חותך את צלעות המשולש בנקודות D ו-E. המיתר BE חוצה את זווית B.  
 א. הבע באמצעות R ו- $\alpha$  את שטח המשולש ABE.  
 ב. ידוע כי המשולש ABE הוא שווה שוקיים וכי אורך המיתר CE הוא 6 ס"מ.  
 חשב את שטח המשולש ABE.

- (47)** במשולש שווה שוקיים ABC ( $AB = AC$ ) שאורך השוק בו הוא k וזווית הבסיס שלו היא  $\beta$ , BE חוצה את זווית B ו-CD הוא הגובה לשוק AB.

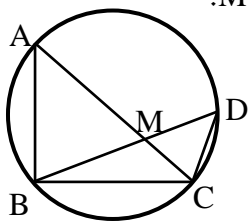
הוכח כי שטח המשולש ADE הוא:

$$S_{ADE} = -\frac{k^2 \sin \frac{\beta}{2} \sin 4\beta}{4 \sin \frac{3\beta}{2}}$$



- (48)** נתון משולש שווה שוקיים ABC ( $AB = AC$ ) החסום במעגל. מהקודקוד C מעבירים את המיתר CE החותך את השוק AB בנקודה D. ידוע כי E היא אמצע הקשת  $\widehat{AB}$  והיחס בין הקטעים BD ו-CD הוא 4:7. מסמנים:  $\sphericalangle ACD = \alpha$ .

- א. מצא את זוויות המשולש ABC (עגל למספרים שלמים).  
 ב. חשב את אורך המיתר BE אם ידוע כי רדיוס המעגל החוסם שווה ל-8 ס"מ.



- (49)** AC ו-BD הם מיתרים במעגל שרדיוסו R, שנפגשים בנקודה M. זווית B היא זווית ישרה. נתון:  $\sphericalangle MCB = \beta$ ,  $\sphericalangle MBC = \alpha$ .

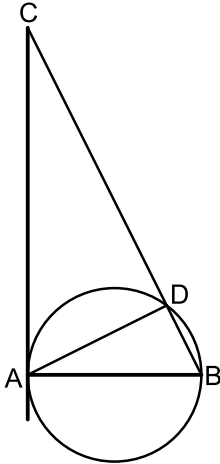
- א. הבע באמצעות R,  $\alpha$  ו- $\beta$  את שטח המשולש BDC.  
 ב. נתון:  $\beta = 2\alpha$ ,  $S_{BDC} = \frac{1}{2}R^2$ .

חשב את  $\alpha$ .

**50** בטרפז שווה שוקיים, שאורך השוק שבו הוא  $b$  והזווית שליד הבסיס הגדול היא  $\gamma$  נתון שהאלכסונים מאונכים זה לזה.

א. הבע באמצעות  $\gamma$  ו- $b$  את אורכי בסיסי הטרפז.

ב. חשב את  $\gamma$  אם ידוע שהבסיס הגדול ארוך פי  $\sqrt{3}$  מהבסיס הקטן.



**51** המיתר AB הוא קוטר במעגל שרדיוסו  $R$  ו-AD הוא מיתר.

ממשיכים את המיתר BD ומעבירים משיק מהנקודה A.

המשיק והמשך המיתר נגשים בנקודה C.

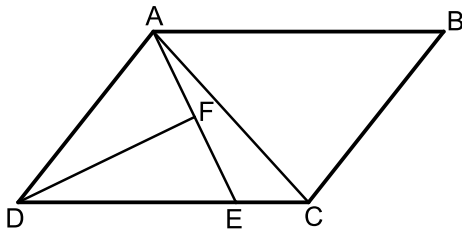
מסמנים:  $\angle BAD = \alpha$ .

א. הבע באמצעות  $\alpha$  ו- $R$  את שטח המשולש ABD.

ב. הבע באמצעות  $\alpha$  ו- $R$  את שטח המשולש ACD.

ג. מצא את  $\alpha$  אם ידוע כי שטח המשולש ABD

קטן פי 4 משטח המשולש ACD.



**52** המרובע ABCD הוא מקבילית.

הקטע AE מקצה על הצלע DC קטעים

המקיימים:  $3CE = DE$ .

מעבירים תיכון DF לצלע AE במשולש ADE.

ידוע כי:  $\angle ADF = \angle CDF = \alpha$ .

מסמנים:  $CE = k$ .

א. הבע באמצעות  $k$  ו- $\alpha$  את אורך הקטע AE.

ב. מעבירים את האלכסון AC.

הבע באמצעות  $k$  ו- $\alpha$  את היקף המשולש ACE.

ג. היקף המשולש ACE הוא  $4.5k$ . מצא את  $\alpha$ .

## תשובות סופיות:

$$(25) \quad S = 75.801 \text{ סמ"ר} \quad \text{א.} \quad S = 8.641 \text{ סמ"ר} \quad \text{ב.}$$

$$(26) \quad S = 16 \text{ סמ"ר}$$

$$S_{ABCD} = \frac{m^2 \tan^2 \alpha \sin 45^\circ \cos \alpha}{2 \sin(\alpha + 45^\circ)} \quad (27)$$

$$(28) \quad \text{א.} \quad \sqrt{\frac{2S}{\sqrt{27}}} \approx 0.62S \quad \text{ב.} \quad \frac{2}{3}S$$

$$(29) \quad \text{א.} \quad \frac{k}{2 \sin \frac{\alpha}{2}} \quad \text{ב.} \quad 44.4^\circ, 67.78^\circ, 67.78^\circ \quad \text{ג.} \quad S = 37.18$$

$$(30) \quad \text{א.} \quad DE = \sqrt{1.6} = 1.26 \quad \text{ב.} \quad R = 2 \quad \text{ג.} \quad S = 21.48$$

$$(31) \quad \text{א.} \quad DC = \frac{m \sin(\alpha + \beta)}{\sin \beta} \quad \text{ב.} \quad AB = \frac{m \sin(\alpha + \beta)}{3 \sin \beta} \quad \text{ג.} \quad S_{ABCD} = 31.2$$

$$(32) \quad \text{א.} \quad 12.75 \text{ ס"מ} \quad \text{ב.} \quad 14.19 \text{ ס"מ} \quad \text{ג.} \quad 63.05 \text{ ס"מ}$$

$$(33) \quad \text{א.} \quad \frac{k \tan \alpha}{\tan 2\alpha} \quad \text{ב.} \quad \frac{k^2 \tan \alpha \sin 2\alpha}{2 \tan^2 2\alpha} \quad \text{ג.} \quad S = 7.754 \text{ ס"מ}$$

$$(34) \quad \text{א.} \quad \frac{k^2 \sin \alpha \sin \beta}{2 \sin(\alpha + \beta)} \quad \text{ב.} \quad \frac{2k^2 \sin \alpha \sin \beta}{\sin(\alpha + \beta)}$$

$$(35) \quad \text{א.} \quad 109.1^\circ \quad \text{ב.} \quad S = 86.6$$

$$(36) \quad \text{א.} \quad 7 \text{ ס"מ} \quad \text{ב.} \quad 34.48 \text{ סמ"ר}$$

$$(37) \quad \text{א.} \quad R = \frac{k}{2 \sin^2 40} = 1.21k \quad \text{ב.} \quad S = \frac{k^2 \sin 10}{2 \sin 50 \sin^3 40} \quad \text{ג.} \quad k = 6$$

$$(38) \quad \text{א.} \quad 40.72^\circ \quad \text{ב.} \quad S = 12.52$$

$$(39) \quad \text{א.} \quad 128.32^\circ; 51.68^\circ \quad \text{ב.} \quad 1.27m \sin \alpha \quad \text{ג.} \quad \frac{0.35m^2 \sin^2 \alpha \sin(128.32 - \alpha)}{\sin(25.84 + \alpha)}$$

$$(40) \quad \text{א.} \quad BD = \frac{k \sin 20}{\sin 100} \quad \text{ב.} \quad k = 7$$

$$(41) \quad \text{א.} \quad 5 \text{ ס"מ} \quad \text{ב.} \quad S = 172.77$$

$$(42) \quad \text{א.} \quad BC = 3 \text{ ס"מ} \quad \text{ב.} \quad AB = 7 \text{ ס"מ} \quad \text{ג.} \quad S = 18.18 \text{ סמ"ר} \quad \text{ד.} \quad R = \sqrt{\frac{37}{3}}$$

ב.ii.  $45^\circ, 135^\circ$

(43) ב.i.  $R = a\sqrt{1 + \frac{\sqrt{2}}{2}} \approx 1.3a$

ג.  $S = 14.4$  סמ"ר

(44) א.  $\cos \sphericalangle BCD = \frac{a^2 - 5b^2}{a^2 + 3b^2}$

ב.  $S = 36\sqrt{3}$  סמ"ר

(45) א.  $S = R^2 \tan 2\alpha$

ב.  $BE = 7.75$

(48) א.  $58^\circ, 58^\circ, 64^\circ$

ב.  $\alpha = 22.5^\circ$

(49) א.  $S = 2R^2 \sin \alpha \cos \beta \sin(90^\circ - \alpha + \beta)$

ב.  $\gamma = 75^\circ$

(50) א.  $\frac{b \sin(135^\circ - \gamma)}{\sin 45^\circ}, \frac{b \sin(\gamma - 45^\circ)}{\sin 45^\circ}$

ג.  $\alpha = 26.56^\circ$

ב.  $S = \frac{2R^2 \cos^3 \alpha}{\sin \alpha}$

(51) א.  $S = R^2 \sin 2\alpha$

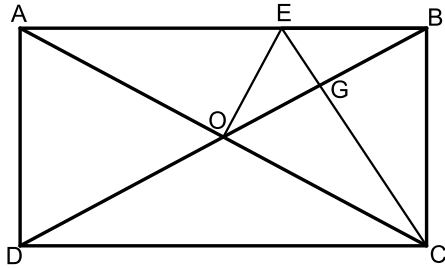
ב.  $P_{ACE} = k + 6k \sin \alpha + k\sqrt{25 - 24 \cos 2\alpha}$

(52) א.  $AE = 6k \sin \alpha$

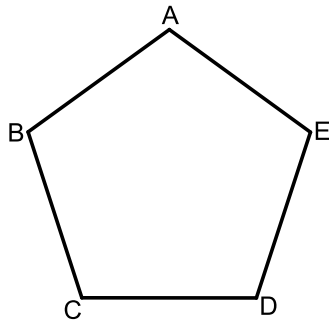
ג.  $\alpha = 14.47^\circ$

## שאלות המשלבות ידע בגיאומטריה:

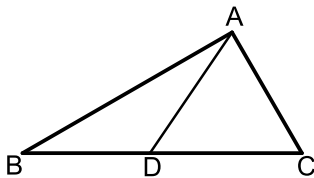
### שאלות:



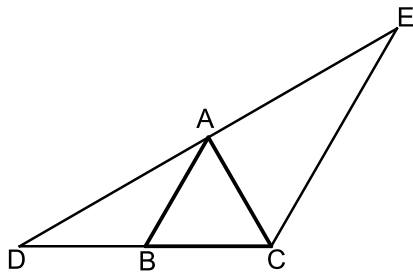
- 53) המרובע ABCD הוא מלבן.  
 מעבירים את האלכסונים AC ו-BD.  
 הנקודה E נמצאת על הצלע AB של המלבן ומחלקת אותה כך ש-  $2BE = AE$ .  
 ידוע כי הקטע OE מאונך לאלכסון AC ושווה ל-BE.  
 הקטע CE חותך את האלכסון BD בנקודה G.  
 א. הוכח כי הקטע CE מאונך לאלכסון BD.  
 ב. הוכח כי מתקיים:  $4GE = AE$ .  
 ג. נתון כי שטח המשולש BEG הוא 5 סמ"ר.  
 חשב את שטח המלבן ABCD.



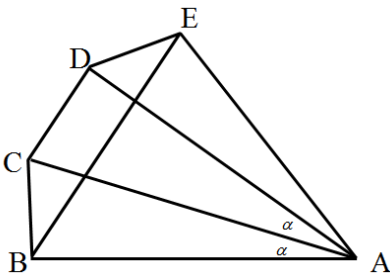
- 54) באיור שלפניך נתון מחומש משוכלל ACBDE (כל זוויותיו הן  $108^\circ$ ) בעל אורך צלע  $\alpha$ .  
 א. הבע באמצעות  $\alpha$  את אלכסון המחומש AD.  
 ב. הבע באמצעות  $\alpha$  את רדיוס המעגל החוסם את המחומש.  
 ג. הבע באמצעות  $\alpha$  את שטח המחומש.  
 ד. אורך רדיוס המעגל החוסם את המחומש הוא 6 ס"מ.  
 חשב את שטח המחומש.



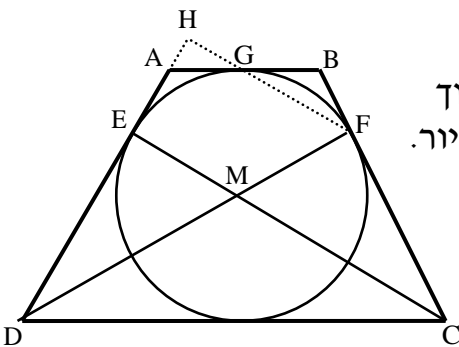
- 55) במשולש ABC הזווית C היא  $60^\circ$ .  
 מעבירים את הקטע AD כך שנוצרים המשולשים ABD ו-ACD.  
 ידוע כי רדיוס המעגל החוסם את המשולש ACD הוא:  $R_1 = \sqrt{3}$  ס"מ.  
 כמו כן רדיוס המעגל החוסם את המשולש ABD הוא:  $R_2 = 3$  ס"מ.  
 א. הוכח כי המשולש ABC הוא ישר זווית.  
 ב. היקף המשולש ABC הוא:  $12 + 4\sqrt{3}$  ס"מ = P.  
 חשב את שטח המשולש.



- (56)** המשולש ABC הוא שווה צלעות. הקטע DE עובר דרך הקודקוד A כך שנוצרים שני משולשים ABD ו-ACE. ידוע כי AC חוצה את זווית DCE במשולש DCE. א. הוכח:  $AB \parallel CE$ . ב. הוכח:  $BC \cdot DE = DC \cdot AE$ . ג. נתון:  $DC = 8$  ס"מ וכי:  $AC \perp DE$ .  
i. חשב את שטח המשולש DCE.  
ii. חשב את שטח המשולש ABD.

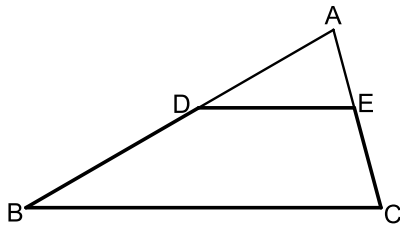


- (57)** מהנקודה A מעבירים את הקטעים AB, AC, AD ו-AE כך שמתקיים:  $\angle BAC = \angle CAD = \alpha$  ו- $AB = AE$ . מעבירים את האלכסון BE במחומש ABCDE מתקיים:  $BE \parallel CD$ . ידוע כי המרובע BCDE הוא בר חסימה. א. הוכח כי המרובע BCDE הוא טרפז שווה שוקיים. ב. נתון כי המשולש ACD הוא ש"ש ( $AC = AD$ ). הוכח כי:  $\triangle ABD \cong \triangle ACE$ . ג. ידוע כי:  $\angle ADC = 3\alpha + 2.5$  ו- $\angle ADE = 3\alpha - 10$ . הוכח כי משולש ADE הוא ישר זווית. ד. נסמן:  $AB = m$ .  
i. הבע באמצעות m את צלעות הטרפז BCDE.  
ii. הבע באמצעות m את שטח המחומש ABCDE.  
iii. מצא את m אם ידוע כי שטח המחומש ABCDE הוא 46.284 סמ"ר. (עגל למספר שלם).



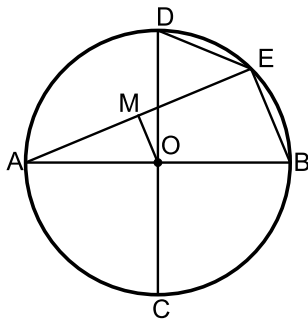
- (58)** הטרפז ABCD הוא שווה שוקיים. חוסמים מעגל בתוך הטרפז אשר משיק לו בנקודות E, F, G ו-H כמתואר באיור. הקטעים DF ו-CE חוצים את זוויות הטרפז ונחתכים בנקודה M. א. הוכח כי הנקודה M היא מרכז המעגל החסום. ב. חשב את זוויות הטרפז. ג. ממשיכים את GF ואת AD כך שהם נפגשים בנקודה H.

חשב את היחס  $\frac{EM}{FH}$ .

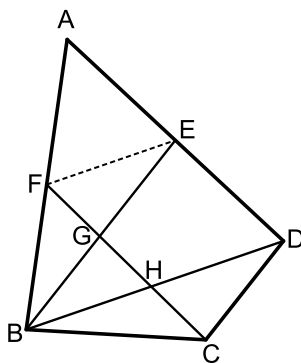


- (59)** המרובע BDEC הוא טרפז  $BC \parallel DE$ . המשכי השוקיים BD ו-CE נפגשים בנקודה A כך שהמשולש ABC הוא שווה שוקיים ( $AB = BC$ ). נתון:  $AB = 18$  ס"מ,  $\angle ADE = 30^\circ$ .
- סמן את אורך הבסיס DE ב- $x$ . ואת שטח הטרפז BDEC ב- $S$ . הבע את  $S$  באמצעות  $x$ .
  - על הקטע AD בונים ריבוע. ידוע כי שטחו קטן ב-1 סמ"ר משטח הטרפז BDEC.

חשב את היחס:  $\frac{S_{ADE}}{S_{ABC}}$ .



- (60)** במעגל שמרכזו O מעבירים את הקטרים AB ו-CD. המאונכים זה לזה. E היא נקודה על היקף המעגל המקיימת:  $BE + DE = 15$  ס"מ. מעבירים את המיתר AE. הקטע OM מאונך למיתר AE ושווה למיתר DE.
- הוכח כי המרובע OMEB הוא טרפז ישר זווית.
  - מצא את אורך המיתר BE.
  - נתון כי שטח הטרפז הוא 90 סמ"ר.
  - מצא את רדיוס המעגל.
  - חשב את זווית B.



- (61)** BD הוא אלכסון במרובע הבר-חסימה ABCD. הנקודות E ו-F הן בהתאמה אמצעי הצלעות AD ו-AB במרובע. מעבירים את הקטעים BE ו-CF כך ש- $BE \parallel CD$ . נתון כי הזוויות  $\angle A$  ו- $\angle BFE$  משלימות ל- $180^\circ$ .
- הוכח:  $\triangle ABCD \sim \triangle BFE$ .
  - נתון כי:  $BE = 7.5$  וכי:  $GE - HD = 17 \frac{1}{15}$ . חשב את אורך הקטע FE.
  - נתון כי רדיוס המעגל החוסם את המשולש BED הוא:  $R = 4.001$  ס"מ. מצא את זווית  $\angle EBD$ .

## תשובות סופיות:

(53) ג. 120 סמ"ר

(54) א.  $1.618\alpha$

(55) ב.  $S = 8\sqrt{3}$

(56) ג. i.  $S_{CDE} = 16\sqrt{3}$

ג. ii.  $S_{ABD} = 4\sqrt{3}$

(57) ד. i.  $BC = 0.4663m$ ,  $DE = 0.4663m$ ,  $CD = 0.4776m$ ,  $BE = 1.2175m$

(62) ד. ii.  $0.7232m^2$

ד. iii.  $m = 8$  ס"מ

ג.  $\frac{2}{3}$

(58) ב.  $60^\circ$ ,  $120^\circ$

ב.  $\frac{S_{ADE}}{S_{ABC}} = \frac{16}{81}$

(59) א.  $S = 81 - 0.25x^2$

ג.  $R = 13$

(60) ב.  $BE = 10$

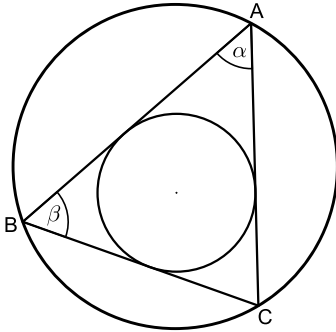
ד.  $\sphericalangle B = 67.38^\circ$

ג.  $16.73^\circ$

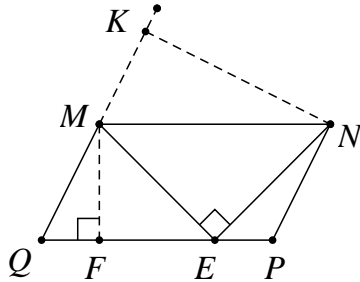
(61) ב.  $FE = 4$

## שאלות מסכמות:

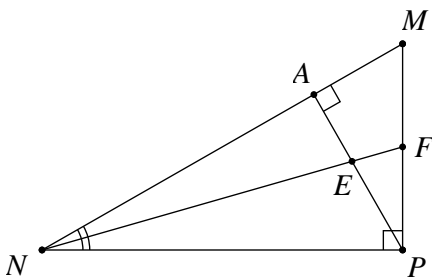
### שאלות:



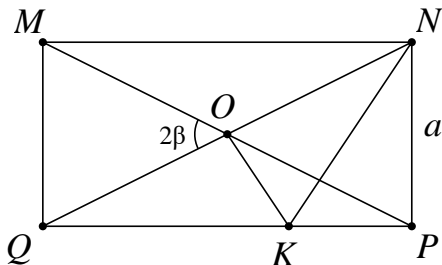
- (1) המשולש ABC חסום מעגל שרדיוסו  $R$ . נתון כי  $\angle A = \alpha$ ,  $\angle B = \beta$ .  
 א. הבע את רדיוס המעגל החסום במשולש בעזרת  $R$ ,  $\alpha$ ,  $\beta$ .  
 ב. נתון כי:  $\alpha = \beta = 60^\circ$ . חשב את רדיוס המעגל החסום במשולש בעזרת  $R$ .



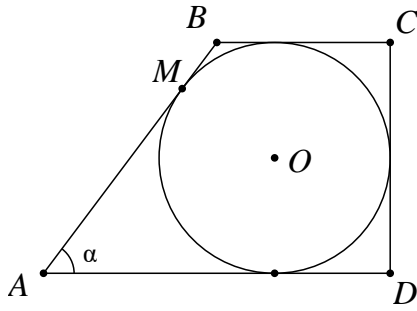
- (2) במקבילית MNQP נקודה E נמצאת על הצלע PQ כך ש- $\angle MEN = 90^\circ$  (ראה ציור). נתון:  $12$  ס"מ  $MQ$ ,  $\angle MNE = 40^\circ$ ,  $\angle MQP = 70^\circ$ . מצא את הגובה MF, ואת הגובה NK.



- (3) במשולש ישר-זווית MNP, ( $\angle P = 90^\circ$ ) PA הוא גובה ליתר ו-NF חוצה את הזווית  $\angle MNP$ .  
 PA ו-NF נחתכים בנקודה E (ראה ציור). נתון:  $24$  ס"מ  $NP$ ,  $\angle MNP = 40^\circ$ .  
 א. מצא את אורך הקטע NA.  
 ב. מצא את אורך הקטע EF.



- (4) אלכסוני המלבן MNQP נחתכים בנקודה O. מנקודה O מעלים אנך ל-QN החותך את QP בנקודה K (ראה ציור). נתון:  $NP = a$ ,  $\angle MOQ = 2\beta$ .  
 א. הבע את אורך הקטע OK באמצעות  $\beta$  ו- $a$ .  
 ב. הבע את היקף המשולש NOK באמצעות  $\beta$  ו- $a$ .



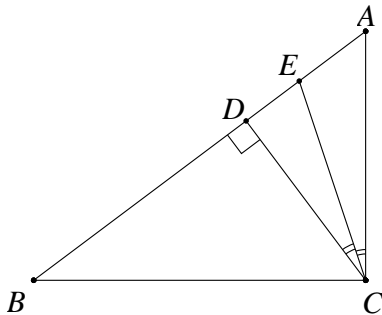
5) בטרפז ישר-זווית ABCD חסום מעגל שמרכזו O.

הנקודה M היא נקודת ההשקה של המעגל עם השוק AB.

נתון:  $AM = 12$  ס"מ,  $\angle BAD = \alpha$ .

א. הבע את רדיוס המעגל בעזרת  $\alpha$ .

ב. הבע את היקף הטרפז בעזרת  $\alpha$ .



6) במשולש ישר-זווית ABC (ראה ציור) נתון:

$\angle ABC = \beta$ ,  $\angle ACB = 90^\circ$ ,  $BC = 8$  ס"מ.

CD הוא הגובה ליתר.

CE הוא חוצה-הזווית  $\angle C$ .

הבע את אורך הקטע AE באמצעות  $\beta$ .

7) נתון מעגל שרדיוסו R. מצולע משוכלל בעל 9 צלעות חוסם את המעגל הזה.

מצולע משוכלל אחר בעל 9 צלעות חסום בתוך מעגל זה.

חשב את היחס בין שטח המצולע החוסם את המעגל לשטח המצולע החסום במעגל זה.

8)  $\triangle ABC$  הוא משולש שווה-שוקיים ( $AB = AC$ ) שאורך בסיסו 12 ס"מ.

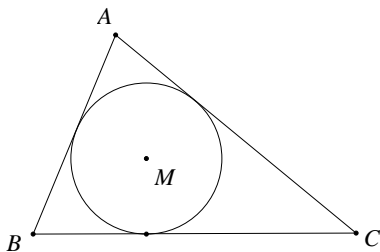
AD הוא הגובה לבסיס BC ו-CE הוא הגובה לשוק AB.

שני הגבהים נחתכים בנקודה O. נתון:  $\angle ABC = \alpha$  ( $\alpha > 45^\circ$ ).

א. הבע את היחס  $AO : DO$  באמצעות  $\alpha$ .

ב. הראה כי בעבור  $\alpha = 60^\circ$  הביטוי שמצאת בסעיף א' מתאים לתכונות

הגאומטריות של משולש שווה-צלעות.



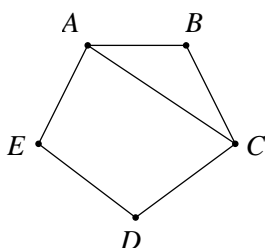
9) במשולש ABC חסום מעגל שמרכזו M

ורדיוסו r (ראה ציור).

נתון:  $\angle B = 62^\circ$ ,  $\angle C = 46^\circ$ .

א. הבע באמצעות r את אורך הצלע BC.

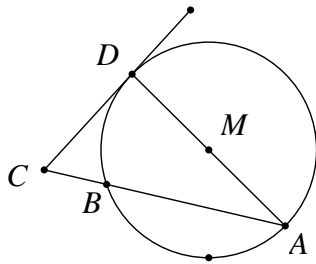
ב. נתון:  $BC = 16$  ס"מ. מצא את r.



10) במחומש משוכלל ABCDE (ראה ציור)

אורך האלכסון AC הוא 15 ס"מ.

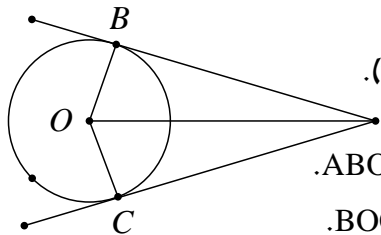
חשב את שטח המחומש.



**11** מנקודה C הנמצאת מחוץ למעגל שמרכזו M ורדיוסו R מעבירים משיק CD וחותך CBA למעגל (ראה ציור).

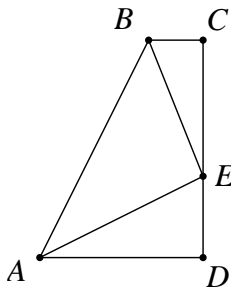
נתון:  $CD = \frac{3}{5}R$ .

- א. מצא את זוויות המשולש CAD.  
ב. הבע באמצעות R את שטח המשולש BCD.



**12** מנקודה A, הנמצאת מחוץ למעגל שמרכזו O, יוצאים שני משיקים למעגל, AB ו-AC (ראה ציור). נתון:  $\angle BAC = 2\alpha$ ,  $AO = 10$  ס"מ.

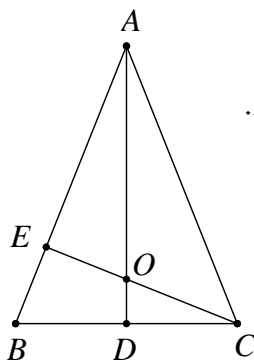
- א. הבע באמצעות  $\alpha$  את  $S_1$ , שטח המרובע ABOC.  
ב. הבע באמצעות  $\alpha$  את  $S_2$ , שטח המשולש BOC.  
ג. הראה שאם  $\alpha = 30^\circ$ , אזי:  $S_1 = 4 \cdot S_2$ .



**13** ABCD הוא טרפז ישר-זווית ( $\angle C = \angle D = 90^\circ$ ). נקודה E נמצאת על הצלע DC (ראה ציור). נתון:  $\angle AEB = 90^\circ$ ,  $AE = BE = k$ , ו- $\angle CBE = \beta$ . הבע באמצעות k ו- $\beta$  את שטח הטרפז.

**14** ענה על השאלות הבאות:

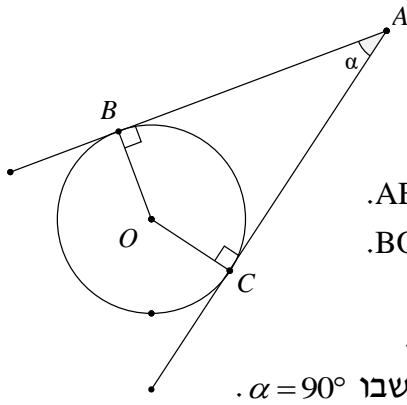
- א. במעושר משוכלל, ששטחו 100 סמ"ר, חוסמים מעגל. מצא את רדיוס המעגל החסום במעושר.  
ב. מעושר משוכלל חסום במעגל, שאת רדיוסו מצאת בסעיף א'. מצא את שטח המעושר המשוכלל הזה.



**15** ABC הוא משולש שווה-שוקיים ( $AB = AC$ ) שבו זווית הראש היא זווית חדה. נתון כי זווית הבסיס היא  $\beta$  ואורך הבסיס BC הוא  $2\alpha$ . AD הוא הגובה לבסיס BC ו-CE הוא הגובה לשוק AB. הגבהים AD ו-CE נפגשים בנקודה O (ראה ציור).

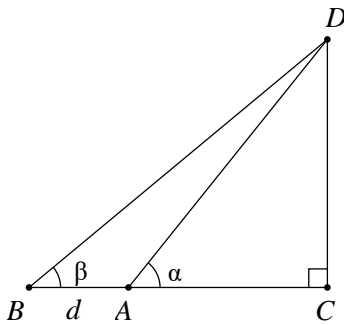
- א. הבע באמצעות  $\alpha$  ו- $\beta$  את אורכי הקטעים CO ו-CE.  
ב. הבע באמצעות  $\beta$  את היחס  $\frac{CO}{CE}$ .

ג. חשב את היחס שמצאת בסעיף ב' כאשר  $\beta = 60^\circ$ , והסבר מהי המשמעות הגאומטרית של התוצאה שקיבלת.

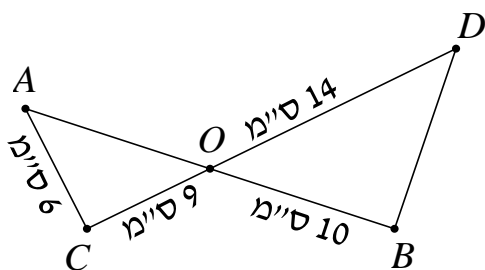


**16** מנקודה A יוצאים שני משיקים למעגל שמרכזו O, שאורכם  $m$  (כלומר:  $AB = AC = m$ ). נקודות ההשקה הן B ו-C, והזווית שבין המשיקים היא  $\angle BAC = \alpha$  (ראה ציור).

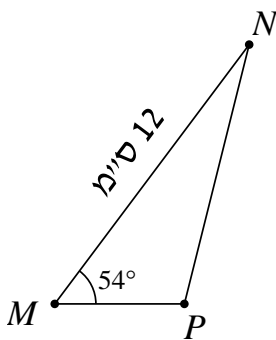
- הבע באמצעות  $m$  ו- $\alpha$  את שטח המשולש ABC.
- הבע באמצעות  $m$  ו- $\alpha$  את שטח המשולש BOC.
- הבע באמצעות  $\alpha$  את היחס שבין שטחו של המשולש BOC לבין שטחו של המשולש ABC.
- בדוק את תשובתך לסעיף ג' למקרה המיוחד שבו  $\alpha = 90^\circ$ .



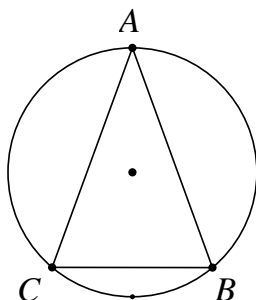
**17** במשולש ישר-זווית DAC נתון  $\angle DAC = \alpha$ . מאריכים את הניצב AC כך ש-  $AB = d$ . נתון כי:  $\angle DBA = \beta$  (ראה ציור). סמן:  $AC = x$ . הבע את  $x$  באמצעות  $d$ ,  $\alpha$  ו- $\beta$ .



**18** הקטעים AB ו-CD נחתכים בנקודה O. נתון כי:  $\angle OAC = 60^\circ$ ,  $AC = 6$  ס"מ,  $CO = 9$  ס"מ,  $OB = 10$  ס"מ,  $OD = 14$  ס"מ. חשב את  $\angle ODB$ .

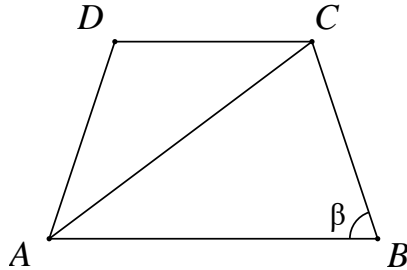


**19** במשולש MNP גודל הזווית M הוא  $54^\circ$ . נתון כי אורך הצלע MN הוא 12 ס"מ (ראה ציור), והצלע NP ארוכה ב-7 ס"מ מהצלע MP. א. חשב את אורך הצלע NP. ב. PA הוא תיכון לצלע MN. חשב את שטח המשולש PAN.

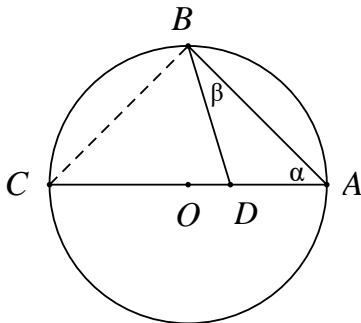


**20** המשולש השווה-שוקיים ABC ( $AB = AC$ ) חסום במעגל (ראה ציור). נתון:  $\angle ABC = \beta$ . כמו כן ידוע שאורך רדיוס המעגל הוא 20 ס"מ. א. הבע בעזרת  $\beta$  את שטח המשולש ABC. ב. חשב את שטח המשולש ABC בעבור  $\beta = 45^\circ$ .

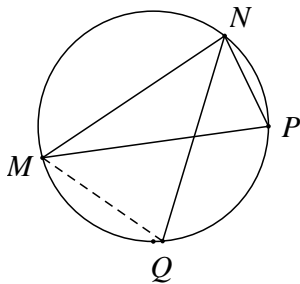
**(21)** במשולש ABC הזווית  $\sphericalangle C$  היא בת  $60^\circ$ , אורך הצלע AB הוא  $\sqrt{13}$  ס"מ, והיקף המשולש הוא  $7 + \sqrt{13}$  ס"מ. חשב את שטח המשולש.



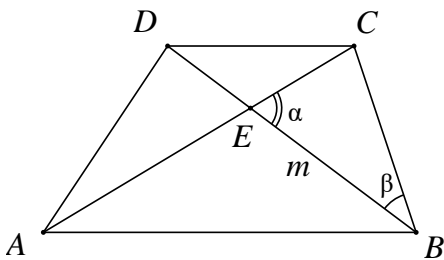
**(22)** בטרפז שווה-שוקיים ABCD ( $AD = BC$ ) אורך הבסיס הגדול AB שווה לאורך האלכסון. זווית הבסיס היא  $\beta$  ( $\beta > 60^\circ$ ), (ראה ציור). הבע באמצעות  $\beta$  את היחס שבין שטח המשולש ACD לשטח המשולש ABC.



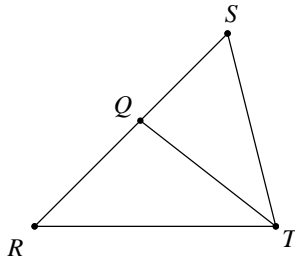
**(23)** הקודקודים A ו-B של המשולש ABD נמצאים על היקף מעגל שאורך רדיוסו 12 ס"מ ומרכזו O. הקודקוד D של המשולש ABD נמצא על הרדיוס OA. א. הבע בעזרת  $\alpha$  ו- $\beta$  את שטח המשולש ABD. ב. הבע בעזרת  $\alpha$  ו- $\beta$  את היחס שבין שטח המשולש ABC לשטח המשולש ABD.



**(24)** משולש MNP חסום במעגל. המיתר NQ חוצה את הזווית  $\sphericalangle MNP$ . נתון:  $\sphericalangle MPN = 70^\circ$ ,  $\sphericalangle MNP = 80^\circ$ ,  $NP = 12$  ס"מ. חשב את אורך המיתר MQ.



**(25)** נתון טרפז ABCD ( $AB \parallel CD$ ). הנקודה E היא נקודת המפגש של אלכסוני הטרפז. נתון:  $BE = m$ ,  $DC = BC$ ,  $\sphericalangle CEB = \alpha$ ,  $\sphericalangle CBD = \beta$  (ראה ציור). הבע את אורכי בסיס הטרפז: AB ו-CD באמצעות  $m$ ,  $\alpha$  ו- $\beta$ .



26) במשולש RST נתון: QT הוא חוצה-הזווית  $\angle RTS$

(ראה ציור),  $RQ = \sqrt{2}$ ,  $QS = m$ ,

$\angle TRQ = 45^\circ$ ,  $\angle RST = \alpha$ .

א. הבע את  $\sin \alpha$  באמצעות  $m$ .

ב. נתון כי:  $m = \frac{2}{\sqrt{3}}$ .

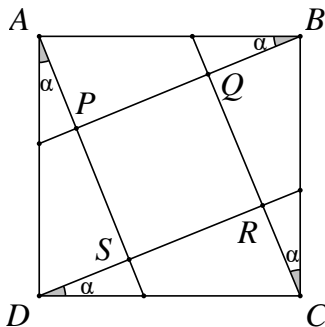
חשב את זוויות המשולש RST.

27) במשולש שווה שוקיים ABC ( $AB = AC$ ) התיכון לשוק שווה באורכו לרדיוס המעגל החוסם את המשולש. חשב את זווית הבסיס של המשולש.

28) נתון משולש שצלעותיו  $t$ ,  $2t$ ,  $kt$

א. לאיזה ערכים של הקבוע  $k$  המשולש הוא קהה זווית?

ב. נתון  $k = \sqrt{7}$ . הבע ע"י  $t$  את אורך חוצה הזווית הקהה.



29) בתוך הריבוע ABCD נתון, העבירו ארבעה

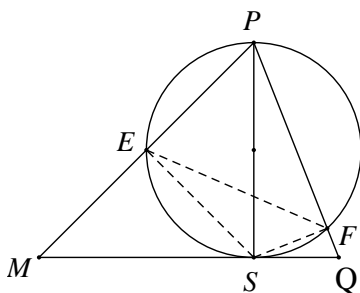
קטעים היוצרים את אותה זווית  $\alpha$

עם צלעות הריבוע כך שהתקבל ריבוע

פנימי PQRS.

א. הוכח כי:  $\frac{PQ}{AB} = \cos \alpha - \sin \alpha$ .

ב. לאיזו זווית  $\alpha$  מתקיים:  $PR = AB$ ?



30) PS הוא גובה במשולש PMQ (ראה ציור).

נתון  $PS = h$ ,  $\angle MPS = \alpha$ ,  $\angle SPQ = \beta$ .

א. הבע את שטח המשולש PMQ

באמצעות  $h$ ,  $\alpha$  ו- $\beta$ .

ב. מעגל שקוטרו PS חותך את

הצלעות PM ו-PQ בנקודות E

ו-F בהתאמה (ראה ציור).

i. הבע באמצעות  $\alpha$  ו- $\beta$  את  $\angle ESF$ .

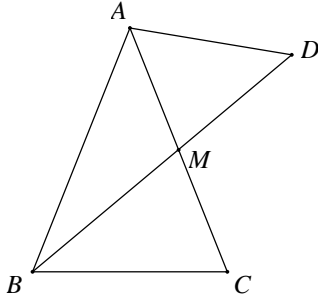
ii. הבע באמצעות  $\alpha$  ו- $\beta$  את היחס בין

שטח המשולש ESF לשטח המשולש PMQ.

**31** במשולש ABC הצלעות הן  $a$ ,  $b$  ו- $c$  והזוויות שמונחות מולן הן:  $\alpha$ ,  $\beta$  ו- $\gamma$  בהתאמה.

א. הבע את אורך התיכון  $m_a$  (התיכון לצלע  $a$ ) באמצעות הצלעות  $b$  ו- $c$  והזווית  $\alpha$ .

ב. בדוק את הנוסחה שמצאת למקרה שבו המשולש ABC הוא שווה צלעות.



**32** במשולש שווה שוקיים ABC ( $AB = AC$ ),

BM הוא תיכון לשוק (ראה ציור).

נתון כי רדיוס המעגל החוסם את המשולש

ABC הוא 10 ס"מ וכן נתון ש- $\angle BAC = 50^\circ$ .

א. מצא את גודל הזווית  $\angle BMC$ .

ב. ממשיכים את BM עד לנקודה D,

כך שרדיוס המעגל החוסם את המשולש ABD הוא 14 ס"מ.

מצא את שטח המשולש AMD.

**33** משולש שווה שוקיים BCE ( $BC = BE$ ) חסום במעגל שרדיוסו R.

זווית הבסיס של המשולש BCE היא  $\alpha$ .

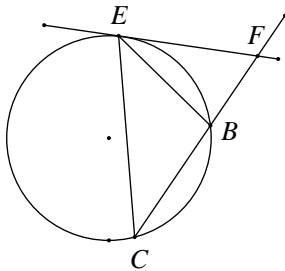
בנקודה E העבירו משיק למעגל החותך את

המשך השוק BC בנקודה F (ראה ציור).

א. בטא את שטח המשולש BEF באמצעות R ו- $\alpha$ .

ב. מצא את הערך של  $\alpha$  שבעבורו שטח

המשולש BCE שווה לשטח המשולש BEF.



**34** בטרפז BCDE ( $BC \parallel ED$ ) אורך הבסיס BC הוא 12 ס"מ.

הזווית שבין הבסיס BC לשוק DC היא  $80^\circ$ .

אורך האלכסון BD הוא 16 ס"מ, והוא חוצה את הזווית  $\angle CBE$ .

חשב את היקף הטרפז.

**35** במשולש ישר-זווית APD מחלקים את הזווית הישרה  $\angle P$

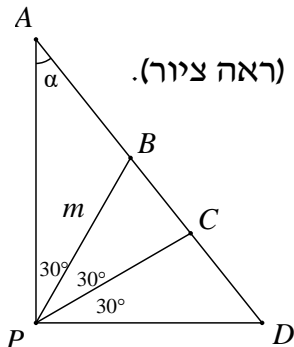
לשלוש זוויות שוות, כלומר  $\angle APB = \angle BPC = \angle CPD = 30^\circ$  (ראה ציור).

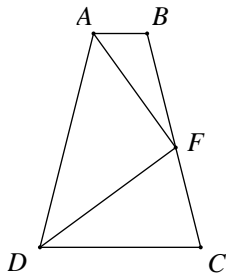
נתון כי:  $PB = m$ ,  $\angle PAD = \alpha$ .

א. היעזר במשפט הסינוסים,

והבע את AB, AC, BD ו-CD באמצעות m ו- $\alpha$ .

ב. הוכח כי:  $\frac{AC \cdot BD}{AB \cdot CD} = 3$



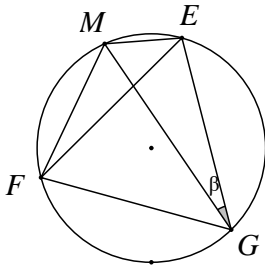


**(36)** בטרפז שווה שוקיים  $ABCD$  ( $AD = BC$ ,  $AB \parallel DC$ ),

$F$  היא נקודה על השוק  $BC$ , כך ש- $DF$  חוצה את הזווית  $\sphericalangle CDA$  ו- $AF$  חוצה את הזווית  $\sphericalangle DAB$  (ראה ציור).

נתון:  $\sphericalangle FAB = \beta$ ,  $AB = b$ .

הבע באמצעות  $b$  ו- $\beta$  את אורך הבסיס  $DC$ .

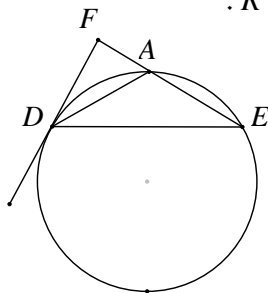


**(37)** משולש שווה צלעות  $EFG$  חסום במעגל שרדיוסו  $R$ .

$M$  היא נקודה על המעגל. נתון:  $\sphericalangle MGE = \beta$  (ראה ציור).

א. הוכח כי:  $ME + MF = MG$ .

ב. אם  $ME = R$  מה תוכל לומר על  $\sphericalangle MGE$ ?



**(38)** משולש שווה שוקיים  $ADE$  ( $AD = AE$ ) חסום במעגל שרדיוסו  $R$ .

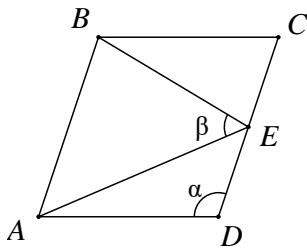
ישר המשיק למעגל בנקודה  $D$  חותך את המשך הצלע  $AE$  בנקודה  $F$  (ראה ציור).

נתון:  $\sphericalangle AEF = \alpha$  ( $60^\circ < \alpha < 180^\circ$ ).

א. הבע את שטח המשולש  $ADF$  באמצעות  $R$  ו- $\alpha$ .

ב. הבע באמצעות  $\alpha$  את היחס שבין שטח המשולש  $ADE$  ובין שטח המשולש  $ADF$ .

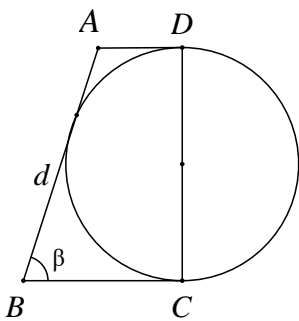
ג. חשב את  $\alpha$  אם שטח המשולש  $ADE$  שווה לשטח המשולש  $ADF$ .



**(39)** במעוין  $ABCD$  הנקודה  $E$  היא אמצע הצלע  $BC$ .

נתון:  $\sphericalangle AEB = \beta$ ,  $\sphericalangle ADC = \alpha$  (ראה ציור).

הוכח כי:  $\cos \beta = \frac{3}{\sqrt{25 - 16 \cos^2 \alpha}}$ .



**(40)** נתון טרפז  $ABCD$  ונתון מעגל. השוק  $DC$  הוא קוטר המעגל.

השוק  $AB$  משיקה למעגל, והבסיסים  $AD$  ו- $BC$  משיקים גם הם למעגל בנקודות  $D$  ו- $C$  בהתאמה (ראה ציור).

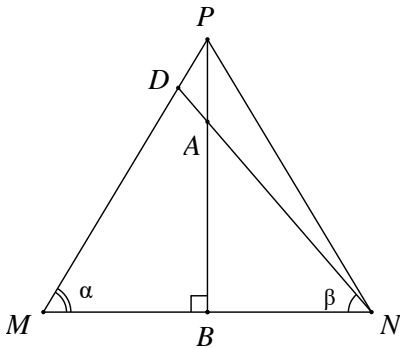
נתון כי:  $AB = d$ ,  $\sphericalangle B = \beta$ .

א. הבע באמצעות  $d$  את סכום בסיסיו של הטרפז.

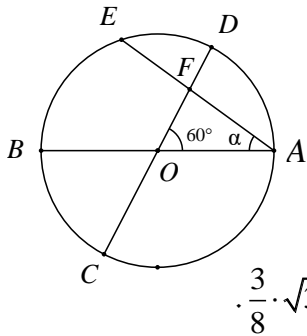
ב. הבע באמצעות  $d$  ו- $\beta$  את היקף הטרפז ואת השטח של הטרפז.

ג. נתון שהיקף הטרפז 25 ס"מ ושטחו 25 סמ"ר.

חשב את הזווית החדה  $\beta$ .



- (41)** במשולש שווה שוקיים  $PMN$  ( $PM = PN$ ),  
 A היא נקודה על הגובה  $PB$ , כך ש-  $PA = \frac{1}{5} \cdot PB$ .  
 הישר  $NA$  חותך את השוק  $PM$  בנקודה  $D$  (ראה ציור).  
 נתון:  $\angle DNB = \beta$ ,  $\angle DNM = \alpha$  ו-  $BN = \alpha$ .  
 א. חשב את היחס  $\tan \beta : \tan \alpha$ .  
 ב. חשב את היחס  $PM:DM$ .



- (42)** במעגל שמרכזו  $O$  ורדיוסו  $R$  מעבירים שני  
 קטרים  $AB$  ו-  $CD$  הנחתכים בזווית של  $60^\circ$ .  
 מיתר  $AE$ , היוצר זווית  $\alpha$  עם הקוטר  $AB$ ,  
 חותך את הקוטר  $CD$  בנקודה  $F$  (ראה ציור).  
 א. הבע את שטח המשולש  $ACF$  באמצעות  $R$  ו-  $\alpha$ .  
 ב. הוכח שכאשר  $\alpha = 30^\circ$ , שטח המשולש  $ACF$  הוא  $\frac{3}{8} \cdot \sqrt{3} \cdot R^2$ .

**תשובות סופיות:**

$$\frac{1}{2}R \quad \text{ב.} \quad r = \frac{2R \sin(\alpha + \beta) \tan \frac{\beta}{2} \tan \frac{\alpha}{2}}{\tan \frac{\alpha}{2} + \tan \frac{\beta}{2}} = 4R \sin \frac{\alpha}{2} \sin \frac{\beta}{2} \cos \frac{\alpha + \beta}{2} \quad \text{א.} \quad (1)$$

$$KN = 21.52 \text{ ס"מ}, MF = 11.28 \text{ ס"מ} \quad (2)$$

$$EF = 5.975 \text{ ס"מ} \quad \text{ב.} \quad NA = 18.385 \text{ ס"מ} \quad \text{א.} \quad (3)$$

$$\frac{a}{2 \sin \beta} \cdot \left[ 1 + \tan \beta + \frac{1}{\cos \beta} \right] \quad \text{ב.} \quad OK = \frac{a}{2 \cos \beta} \quad \text{א.} \quad (4)$$

$$24 \cdot \left( 1 + \tan \frac{\alpha}{2} \right)^2 \quad \text{ב.} \quad 12 \cdot \tan \frac{\alpha}{2} \quad \text{א.} \quad (5)$$

$$AE = 8 \sin \beta \cdot \left[ \tan \beta - \tan \left( \frac{1}{2} \beta \right) \right] = 8 \tan \beta \cdot \tan \left( \frac{1}{2} \beta \right) \quad (6)$$

$$2 \cdot \frac{\tan 20^\circ}{\sin 40^\circ} = \frac{1}{\cos^2 20^\circ} \approx 1.132 \quad (7)$$

$$-2 \cdot \frac{\tan \alpha}{\tan 2\alpha} = -\frac{\cos 2\alpha}{\cos^2 \alpha} = \tan^2 \alpha - 1 \quad \text{א.} \quad (8)$$

ב. מתקיים:  $AO = 2 \cdot DO$  (מפגש הגבהים הוא גם מפגש התיכונים).

$$r = \frac{16}{\tan 59^\circ + \tan 67^\circ} \approx 3.98 \quad \text{ב.} \quad BC = r \cdot (\tan 59^\circ + \tan 67^\circ) \approx 4.02 \cdot r \quad \text{א.} \quad (9)$$

$$S = 147.86 \text{ סמ"ר} \quad (10)$$

$$S \approx 0.0495 \cdot R^2 \quad \text{ב.} \quad \sphericalangle C = 73.3^\circ, \sphericalangle D = 90^\circ, \sphericalangle A = 16.7^\circ \quad \text{א.} \quad (11)$$

$$S_1 = 100 \cdot \sin \alpha \cdot \cos \alpha = 50 \cdot \sin 2\alpha \quad \text{א.} \quad (12)$$

$$S_2 = 50 \cdot \sin^2 \alpha \cdot \sin(180^\circ - 2\alpha) = 50 \cdot \sin^2 \alpha \cdot \sin 2\alpha \quad \text{ב.}$$

$$\text{ב. 27 יח"ש.} \quad S = \frac{1}{2} k^2 \cdot (1 + 2 \sin \beta \cos \beta) \quad \text{א.} \quad (13)$$

$$S \approx 90.45 \text{ סמ"ר} \quad \text{ב.} \quad r \approx 5.548 \text{ ס"מ} \quad \text{א.} \quad (14)$$

$$\frac{CO}{CE} = \frac{1}{2 \sin^2 \beta} \quad \text{ב.} \quad CE = 2a \cdot \sin \beta, \quad CO = \frac{a}{\sin \beta} \quad \text{א.} \quad (15)$$

ג. היחס הוא:  $\frac{2}{3}$  (בדומה למפגש התיכונים במשולש)

$$S_{\Delta BOC} = \frac{1}{2} m^2 \cdot \sin \alpha \cdot \tan^2 \frac{\alpha}{2} \quad \text{ב.} \quad S_{\Delta ABC} = \frac{1}{2} m^2 \cdot \sin \alpha \quad \text{א. (16)}$$

$$\text{ג. יחס השטחים: } \tan^2 \frac{\alpha}{2}$$

ד. במקרה זה ABOC הוא ריבוע, ויחס השטחים שווה ל-1 ( $\tan^2 45^\circ = 1$ ).

$$AC = x = d \cdot \frac{\tan \beta}{\tan \alpha - \tan \beta} \quad (17)$$

$$\sphericalangle ODB \approx 44.7^\circ \quad (18)$$

$$S_{\Delta PAN} = 8.2 \text{ סמ"ר} \quad \text{ב.} \quad NP = 10.38 \text{ ס"מ} \quad \text{א. (19)}$$

$$S = 800 \cdot \sin^2 \beta \cdot \sin 2\beta \quad \text{א. (20)} \quad \text{ב. 400 סמ"ר}$$

$$S_{\Delta ABC} = 3 \cdot \sqrt{3} \approx 5.196 \text{ סמ"ר} \quad (21)$$

$$(22) \quad \text{יחס השטחים הוא: } 1 - 4 \cos^2 \beta = \left( -\frac{\sin 3\beta}{\sin \beta} \right) \quad \text{או כל תשובה שקולה.}$$

$$\frac{\sin(\alpha + \beta)}{\sin \beta \cdot \cos \alpha} \quad \text{ב.} \quad S_{\Delta ABD} = 288 \cdot \frac{\sin \alpha \cdot \cos^2 \alpha \cdot \sin \beta}{\sin(\alpha + \beta)} \quad \text{א. (23)}$$

$$MQ \approx 15.43 \text{ ס"מ} \quad (24)$$

$$DC = m \cdot \frac{\sin \alpha}{\sin(\alpha + \beta)}, \quad AB = m \cdot \frac{\sin \alpha}{\sin(\alpha - \beta)} \quad (25)$$

$$45^\circ, 60^\circ, 75^\circ \text{ או } 45^\circ, 120^\circ, 15^\circ \quad \text{ב.} \quad \sin \alpha = \frac{1}{m} \quad \text{א. (26)}$$

$$\alpha \approx 20.7 \quad (27)$$

$$\frac{2}{3} \cdot t \approx 0.667t \quad \text{ב.} \quad 1 < k < \sqrt{3} \text{ או } \sqrt{5} < k < 3 \quad \text{א. (28)}$$

$$\alpha = 15^\circ \quad (29)$$

$$\sphericalangle ESF = 180^\circ - (\alpha + \beta) \quad \text{ב. i.} \quad S_{\Delta MPQ} = \frac{1}{2} \cdot h^2 \cdot (\tan \alpha + \tan \beta) \quad \text{א. (30)}$$

$$S_{\Delta EFS} : S_{\Delta MPQ} = \frac{1}{4} \cdot \sin 2\alpha \cdot \sin 2\beta \quad \text{ב. ii.}$$

$$m_a = \frac{\sqrt{3}}{2} \cdot b \quad \text{ב.} \quad m_a = \frac{1}{2} \cdot \sqrt{b^2 + c^2 + 2 \cdot b \cdot c \cdot \cos \alpha} \quad \text{א. (31)}$$

$$S_{\Delta AMD} = 54.1 \text{ סמ"ר} \quad \text{ב.} \quad \sphericalangle BMC = 79.5^\circ \quad \text{א. (32)}$$

$$\alpha = 45^\circ \text{ ב.} \quad S_{\triangle BEF} = \frac{2R^2 \cdot \sin^3 \alpha \cdot \sin 2\alpha}{\sin 3\alpha} \text{ נ. (33)}$$

$$P_{BCDE} = 51.09 \text{ (34)}$$

$$, BD = \frac{\sqrt{3} \cdot m}{2 \cdot \cos \alpha}, AB = \frac{m}{2 \cdot \sin \alpha}, AC = \frac{\sqrt{3} \cdot m \cdot \sin(30^\circ + \alpha)}{2 \cdot \sin(60^\circ + \alpha) \cdot \sin \alpha} \text{ נ. (35)}$$

$$\text{ב. הוכחה.} \quad CD = \frac{m \cdot \sin(30^\circ + \alpha)}{2 \cdot \sin(60^\circ + \alpha) \cdot \cos \alpha}$$

$$DC = \frac{-b \cdot \tan \beta}{\tan 3\beta} \text{ (36)}$$

$$\text{ב. MG הוא קוטר במעגל. (37)}$$

$$\frac{S_{\triangle ADE}}{S_{\triangle ADF}} = -\frac{\cos(1.5\alpha)}{\cos(0.5\alpha)} \text{ ב.} \quad S_{\triangle ADF} = \frac{-2R^2 \cdot \cos^3 \frac{\alpha}{2} \cdot \sin \alpha}{\cos(1.5\alpha)} \text{ נ. (38)}$$

$$\alpha = 90^\circ \text{ ג.}$$

$$S = \frac{1}{2} d^2 \cdot \sin \beta, P = 2d + d \sin \beta \text{ ב.} \quad AD + BC = d \text{ נ. (40)}$$

$$\beta = 30^\circ \text{ ג.}$$

$$PM : DM = \frac{9}{8} = 1.125 \text{ ב.} \quad \tan \beta : \tan \alpha = \frac{4}{5} = 0.8 \text{ נ. (41)}$$

$$.S = \frac{3R^2 \cdot \sin(30^\circ + \alpha)}{4 \cdot \sin(60^\circ + \alpha)} \text{ נ. (42)}$$

# קורס מתמטיקה להנדסאי טכנולוגיות מים

פרק 18 - גיאומטריה אנליטית - נקודה וישר

תוכן העניינים

292	1. מושגי יסוד בגיאומטריה אנליטית
296	2. משוואת הישר
301	3. מצבים הדדיים בין ישרים
303	4. מציאת משוואות ישר
304	5. שאלות יסודיות שונות עם משוואת הישר
(ללא ספר)	6. נושאים מתקדמים עם משוואת הישר
310	7. חלוקת קטע ביחס נתון
311	8. מרחק נקודה מישר
313	9. מיקום נקודה ביחס לישר
315	10. מרחק בין ישרים מקבילים

## מושגי יסוד בגיאומטריה אנליטית:

סיכום כללי:

נוסחאות כלליות:

- המרחק בין הנקודות  $A(x_1, y_1)$  ו-  $B(x_2, y_2)$  יחושב לפי:  $d = \sqrt{(x_2 - x_1)^2 + (y_2 - y_1)^2}$ .
- אמצע הקטע  $M$  שקצותיו הם:  $A(x_1, y_1)$  ו-  $B(x_2, y_2)$  הוא:  $x_M = \frac{x_1 + x_2}{2}$ ,  $y_M = \frac{y_1 + y_2}{2}$ .

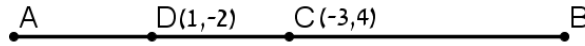
שאלות:

שאלות העוסקות באמצע קטע:

- 1) מצא את אמצעי הקטעים שקדקודיהם נתונים ע"י הנקודות A ו-B:
- א.  $A(1, 4)$ ,  $B(5, -8)$       ב.  $A(-3, 0)$ ,  $B(3, -2)$
- ג.  $A(4, 5)$ ,  $B(-4, -5)$       ד.  $A\left(\frac{1}{2}, \frac{3}{4}\right)$ ,  $B\left(7\frac{1}{2}, -2\right)$
- ה.  $A(6, -1)$ ,  $B(-3, -1)$       ו.  $A(4, 7)$ ,  $B(4, -12)$
- 2) נתון קטע AB שאמצעו בנקודה M.
- מצא את שיעורי נקודת הקצה B אם נתונים שיעורי הנקודות של A ושל M:
- א.  $A(4, -2)$ ,  $M(2, 1)$       ב.  $A(-6, -8)$ ,  $M(0, 0)$
- ג.  $A(13, -11)$ ,  $M(4, -7)$       ד.  $A\left(\frac{1}{3}, -\frac{4}{3}\right)$ ,  $M\left(\frac{2}{3}, -\frac{1}{3}\right)$
- 3) נתון משולש שווה שוקיים ABC שבו A הוא קדקוד הראש.
- ידוע כי שיעורי הקדקודים B ו-C הם  $B(2, -4)$ ,  $C(6, 1)$ .
- מעבירים תיכון AD לבסיס BC. מצא את שיעורי הנקודה D.
- 4) באיור שלפניך C היא נקודת האמצע של AB, ו-D היא נקודת האמצע של AC.
- ידוע כי:  $A(-2, 1)$ ,  $B(6, 5)$ . מצא את שיעורי הנקודה D.



- (5) באיור שלפניך C היא נקודת האמצע של AB, ו-D היא נקודת האמצע של AC. ידוע כי:  $D(1, -2)$ ,  $C(-3, 4)$ . מצא את שיעורי הנקודות A ו-B.



- (6) הנקודות  $A(2, -7)$ ,  $B(-10, 4)$  ו- $C(6, 11)$  הן שלושה קדקודים של מקבילית ABCD. מצא את שיעורי הקדקוד הרביעי, D.

### שאלות העוסקות במרחק בין שתי נקודות:

- (7) מצא את המרחק בין זוגות הנקודות הבאות:
- א.  $A(4, 7)$ ,  $B(-3, 7)$       ב.  $A(6, 2)$ ,  $B(1, 2)$
- ג.  $A(-3, 10)$ ,  $B(0, 6)$       ד.  $A(6, -9)$ ,  $B(1, 3)$
- ה.  $A(4, 7)$ ,  $B(13, -1)$       ו.  $A(6, 6)$ ,  $B(-9, -9)$
- (8) חשב את היקף המשולש ABC שקודקודיו הם:  $A(3, -2)$ ,  $B(4, 9)$ ,  $C(0, 14)$ .

- (9) נתונות נקודות  $A(14, 4)$ ,  $B(6, y)$  שמרחקן הוא 10 יחידות אורך. מצא את  $y$ .

- (10) נתונות נקודות  $A(x, -12)$ ,  $B(15, -2)$  שמרחקן הוא 26 יחידות אורך. מצא את  $x$ .

- (11) נתונה נקודה B ברביע השלישי, ששיעור ה- $y$  שלה גדול פי 3 משיעור ה- $x$  שלה ומרחקה מהנקודה  $A(-4, 1)$  הוא 5. מצא את שיעורי הנקודה B.

- (12) במשולש שווה שוקיים ABC ( $AB = AC$ ) ידוע כי אורכי השוקיים הוא  $\sqrt{45}$  יחידות אורך. שיעורי הקדקוד A הם  $(0, 4)$  ושיעורי ה- $y$  של הקדקודים B ו-C הוא -2. מצא את קדקודי המשולש B ו-C (הנח B ברביע הרביעי).

- (13) אורך האלכסון AC במלבן ABCD הוא  $d_{AC} = \sqrt{50}$  וידוע כי:  $A(-3, -2)$ ,  $B(-4, 1)$ . מצא את היקף המלבן.

**שאלות העוסקות בשיפוע בין שתי נקודות:****14** מצא את השיפוע בין זוגות הנקודות הבאים:

- א.  $A(5,2)$  ,  $B(4,1)$       ב.  $A(3,-2)$  ,  $B(-3,1)$
- ג.  $A(7,8)$  ,  $B(6,15)$       ד.  $A(0,5)$  ,  $B(7,0)$
- ה.  $A(6,9)$  ,  $B(6,-7)$       ו.  $A(4,-1)$  ,  $B(18,-1)$

**15** מצא את שיפועי הישרים שצלעות המשולש שקודקודיוהם:  $A(6,5)$  ,  $B(2,13)$  ,  $C(4,-7)$  מונחים עליהם.

## תשובות סופיות:

- (1) א.  $(3, -2)$     ב.  $(0, -1)$     ג.  $(0, 0)$
- ד.  $\left(4, -\frac{5}{8}\right)$     ה.  $(1.5, -1)$     ו.  $(4, -2.5)$
- (2) א.  $B(0, 4)$     ב.  $B(6, 8)$     ג.  $B(-5, -3)$     ד.  $B\left(1, \frac{2}{3}\right)$
- (3)  $D(4, -1.5)$
- (4)  $D(0, 2)$
- (5)  $A(5, -8)$ ,  $B(-11, 16)$
- (6)  $D(18, 0)$
- (7) א.  $d_{AB} = 7$     ב.  $d_{AB} = 5$     ג.  $d_{AB} = 5$     ד.  $d_{AB} = 13$
- ה.  $d_{AB} = \sqrt{145}$     ו.  $d_{AB} = 15\sqrt{2}$
- (8)  $P_{ABC} \approx 33.862$  יחידות אורך
- (9)  $y = -2$  או  $y = 10$
- (10)  $x = 39$  או  $x = -9$
- (11)  $B(-1, -3)$
- (12)  $B(3, -2)$ ,  $C(-3, -2)$
- (13)  $P_{ABCD} = 6\sqrt{10} \approx 18.97$  יחידות אורך
- (14) א.  $m_{AB} = 1$     ב.  $m_{AB} = -\frac{1}{2}$     ג.  $m_{AB} = -7$     ד.  $m_{AB} = -\frac{5}{7}$
- ה. שיפוע לא מוגדר.    ו.  $m_{AB} = 0$
- (15)  $m_{AB} = -2$ ,  $m_{BC} = -10$ ,  $m_{AC} = 6$

## משוואת הישר:

סיכום כללי:

נוסחאות כלליות:

• שיפוע ישר בין שתי נקודות  $A(x_1, y_1)$  ו-  $B(x_2, y_2)$  הוא:  $m_{AB} = \frac{y_2 - y_1}{x_2 - x_1} = \frac{y_1 - y_2}{x_1 - x_2}$ .

שיפועים של ישרים:

- שיפועי ישרים מאונכים מקיימים:  $m_1 \cdot m_2 = -1$ .
- הקשר בין שיפוע ישר לזווית שהוא יוצר עם הכיוון החיובי של ציר ה- $x$ :  $m = \tan \alpha$ .

משוואת הישר:

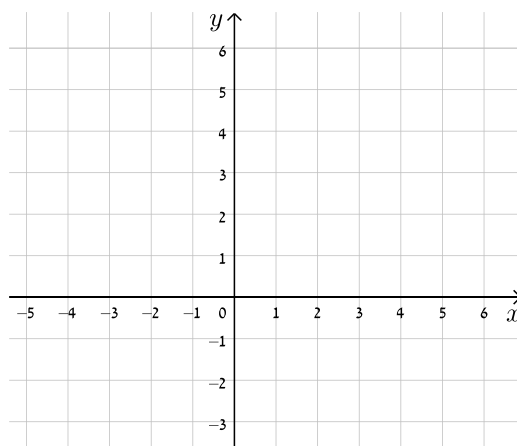
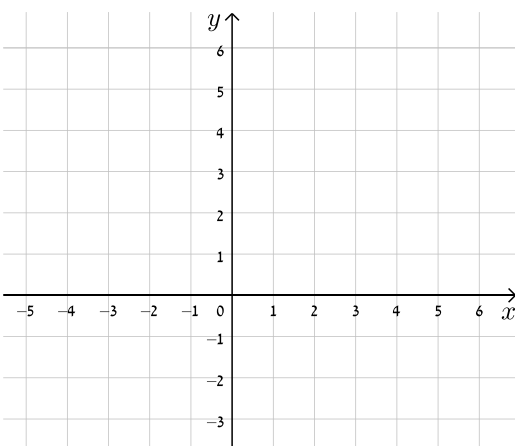
- משוואת ישר מפורשת היא מהצורה:  $y = mx + n$ .
- כאשר:  $m$  הוא שיפוע הישר ו- $n$  הוא ערך ה- $y$  של נקודת החיתוך של הישר עם ציר ה- $y$ .
- נוסחה למציאת משוואת ישר:  $y - y_1 = m(x - x_1)$ .

שאלות:

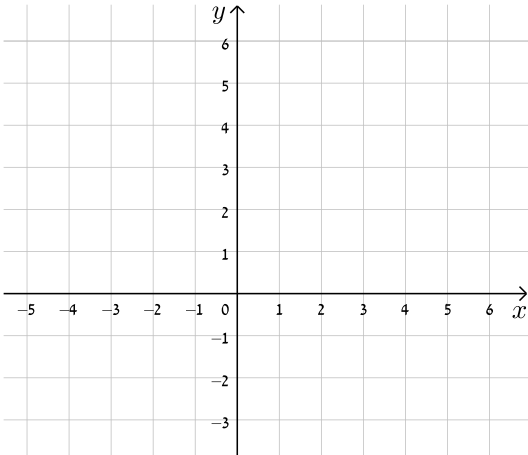
16) עבור כל אחד ממשוואות הישרים הבאות, מצא את נקודות החיתוך עם הצירים וסרטט את הישרים במערכת הצירים שלפניך.

ב.  $y = -x + 5$

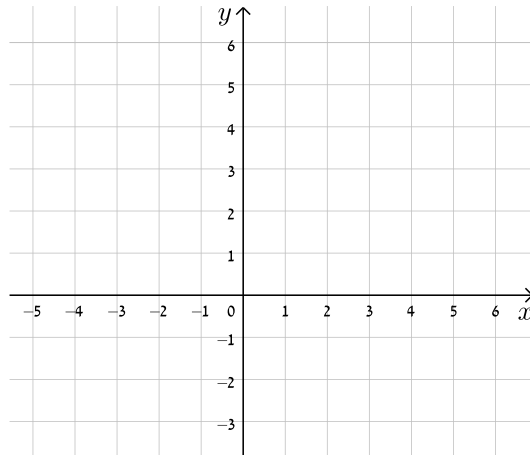
א.  $y = x + 4$



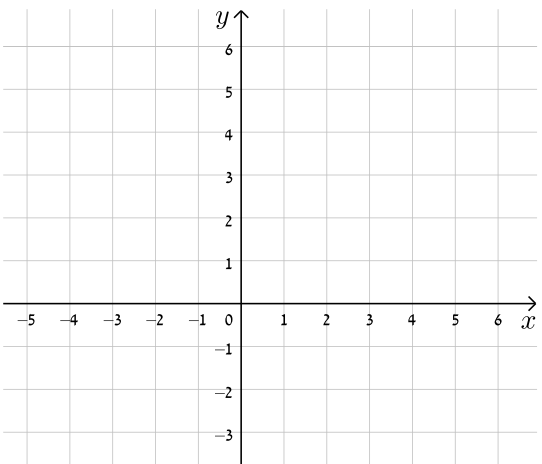
$$y = -3x + 5 \quad \text{ד.}$$



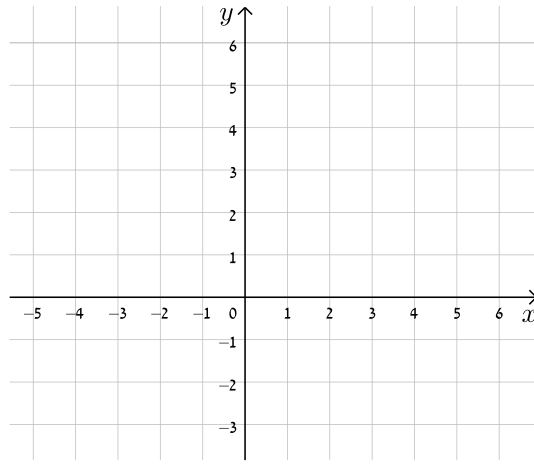
$$y = 2x - 3 \quad \text{ג.}$$



$$y = 8 - 4x \quad \text{ו.}$$

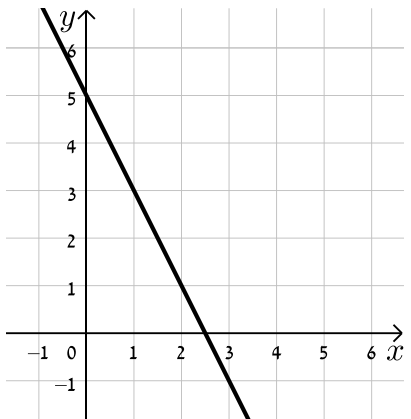


$$y = 3x - 1 \quad \text{ה.}$$

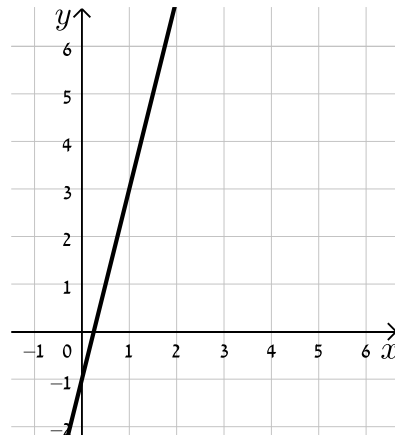


17) כתוב את משוואת הישר המתאימה לכל אחד מהישרים הבאים:

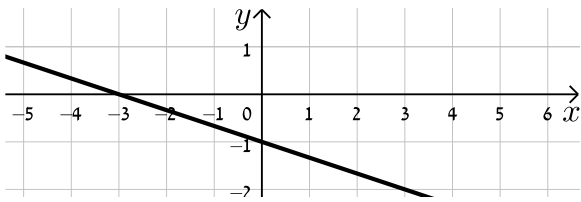
ב.



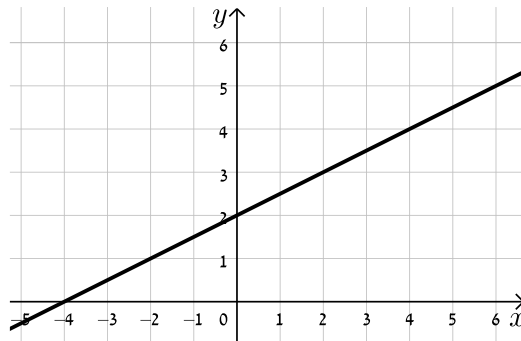
א.



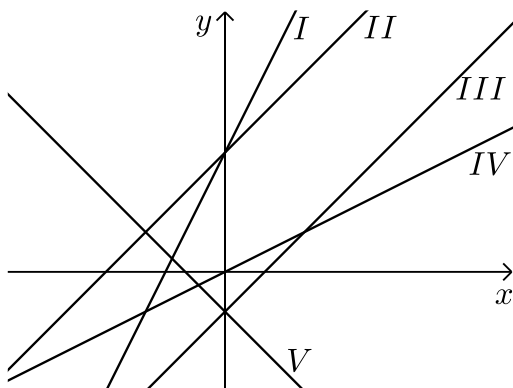
ד.



ג.



18) התאם בין משוואות הישרים הבאים לישרים בשרטוט:



א.  $y = x + 3$

ב.  $y = -x - 1$

ג.  $y = 2x + 3$

ד.  $y = x - 1$

ה.  $y = \frac{1}{2}x$

19) נתונה משוואה הישר הבאה:  $y = 2x + 3$ . קבע אלו מבין הנקודות הבאות נמצאות

עליו:  $A(-1, 1)$ ,  $B(3, 3)$ ,  $C(0, 4)$ ,  $D(6, 15)$ .

20) נתונה משוואת הישר הבאה:  $y = mx - 2.5$ . ידוע כי הנקודה  $A(4, 2)$  נמצאת על

הישר. מצא את  $m$  וקבע האם גם הנקודה  $B(7, -2)$  נמצאת עליו.

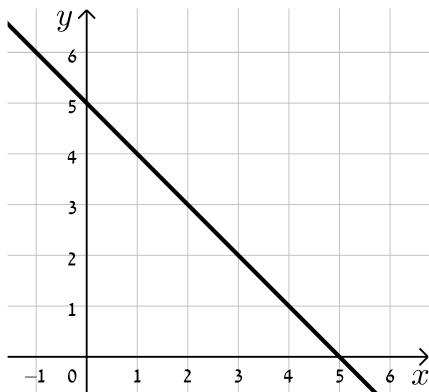
21) הנקודות  $A(5, -3)$ ,  $B(4, 1)$  נמצאות על ישר שמשוואתו היא:  $y = mx + n$ .

מצא את  $m$  ואת  $n$ .

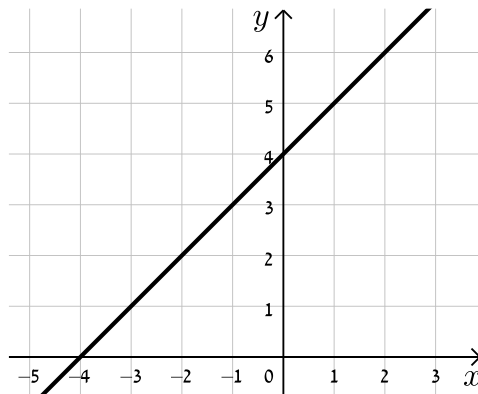
**תשובות סופיות:**

16) להלן הגרפים של משוואות הישרים:

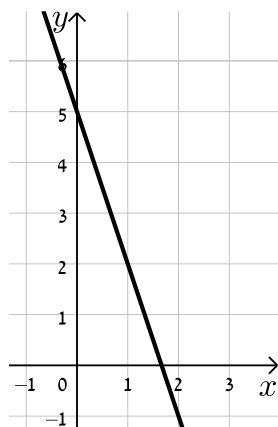
ב.



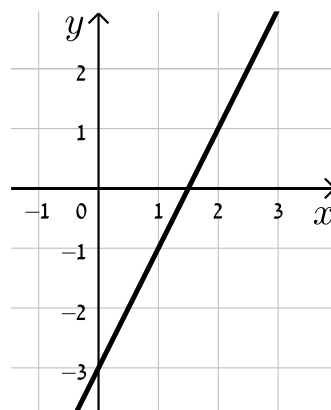
א.



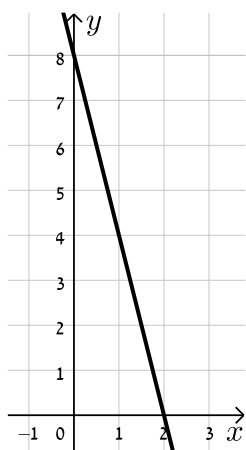
ד.



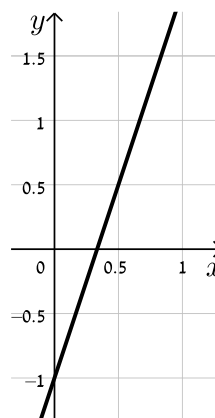
ג.



ו.



ה.



- (17) א.  $y = 4x - 1$     ב.  $y = -2x + 5$     ג.  $y = \frac{1}{2}x + 2$     ד.  $y = -\frac{1}{3}x - 1$
- (18) א. II.    ב. V.    ג. I.    ד. III.    ה. IV.
- (19) נמצאות: A, D. לא נמצאות: B, C.
- (20)  $m = \frac{9}{8}$ , B לא נמצאת.
- (21)  $m = -4$ ,  $n = 17$ .

## מצבים הדדיים בין ישרים:

### סיכום כללי:

#### מצב הדדי בין שני ישרים:

- ישרים מקבילים מקיימים:  $m_1 = m_2, n_1 \neq n_2$ .
- ישרים חותכים מקיימים:  $m_1 \neq m_2$ .
- ישרים מתלכדים מקיימים:  $m_1 = m_2, n_1 = n_2$ .

### שאלות:

22) מצא את נקודות החיתוך שבין זוגות הישרים הבאים:

$$\begin{cases} y = 2x - 4 \\ y = x + 6 \end{cases} \quad \text{ג.}$$

$$\begin{cases} y = x - 12 \\ y = 4x + 6 \end{cases} \quad \text{ב.}$$

$$\begin{cases} y = 3x + 4 \\ y = -2x - 1 \end{cases} \quad \text{א.}$$

23) קבע את המצב ההדדי בין זוגות הישרים הבאים:

$$\begin{cases} y = x - 7 \\ y = x + 6 \end{cases} \quad \text{ב.}$$

$$\begin{cases} y = 3x + 4 \\ y = 2x + 4 \end{cases} \quad \text{א.}$$

$$\begin{cases} y = x + 8 \\ y = x + 8 \end{cases} \quad \text{ד.}$$

$$\begin{cases} y = 6x - 15 \\ y = 3x + 41 \end{cases} \quad \text{ג.}$$

24) קבע אלו מבין זוגות הישרים הבאים הם מאונכים זה לזה:

$$\begin{cases} y = 2x \\ y = \frac{1}{2}x + 4 \end{cases} \quad \text{ב.}$$

$$\begin{cases} y = 3x + 1 \\ y = 3x - 1 \end{cases} \quad \text{א.}$$

$$\begin{cases} y = x - 6 \\ y = -x + 6 \end{cases} \quad \text{ד.}$$

$$\begin{cases} y = -4x - 5 \\ y = \frac{1}{4}x + 5 \end{cases} \quad \text{ג.}$$

- (25)** משוואת הצלע AB של המלבן ABCD היא  $y = 6x - 2$ .
- א. מה הם שיפועי הצלעות האחרות של המלבן?  
 ב. כיצד תשתנה תשובתך לסעיף הקודם אם משוואת הישר הנ"ל הייתה שייכת לצלע BC במקום AB?
- (26)** במשולש ABC נתונים שיעורי הקודקודים:  $A(5, -1)$ ,  $B(3, 7)$ ,  $C(-5, 5)$ .  
 הוכח שהמשולש ישר זווית ושווה שוקיים.

### תשובות סופיות:

- (22)** א.  $(-1, 1)$       ב.  $(-6, -18)$       ג.  $(10, 16)$
- (23)** א. נחתכים.      ב. מקבילים.      ג. נחתכים.      ד. מתלכדים.
- (24)** מאונכים: ג', ד'.      לא מאונכים: א', ב'.
- (25)** א.  $m_{AB} = m_{CD} = 6$ ,  $m_{BC} = m_{AD} = -\frac{1}{6}$
- ב. הכל הפוך:  $m_{BC} = m_{AD} = 6$ ,  $m_{AB} = m_{CD} = -\frac{1}{6}$
- (26)** שאלת הוכחה.

## מציאת משוואות ישר:

### שאלות:

27) מצא את משוואות הישרים הבאים:

- א. ישר העובר דרך הנקודה  $A(1,3)$  ושיפועו  $m=2$ .
- ב. ישר העובר דרך הנקודה  $A(0,-4)$  ושיפועו  $m=\frac{1}{3}$ .
- ג. ישר העובר דרך הנקודה  $A(5,9)$  ושיפועו  $m=0$ .
- ד. ישר העובר דרך הנקודות  $A(5,-12)$  ו- $B(6,-6)$ .
- ה. ישר העובר דרך הנקודה  $A(-6,4)$  ומקביל לישר:  $y=2x-3$ .
- ו. ישר העובר דרך הנקודה  $A(3,-5)$  ומקביל לציר ה- $y$ .
- ז. ישר העובר דרך הנקודה  $A(-7,-3)$  ומאונך לישר:  $y=x+3$ .
- ח. ישר העובר דרך נקודת החיתוך של הישרים:  $y=11x-4$  ו- $y=3x-12$  ומקביל לישר:  $y=7x+5$ .

### תשובות סופיות:

- 27) א.  $y=2x+1$     ב.  $y=\frac{1}{3}x-4$     ג.  $y=9$     ד.  $y=6x-42$
- ה.  $y=2x+16$     ו.  $x=3$     ז.  $y=-x-10$     ח.  $y=7x-8$

## שאלות יסודיות שונות עם משוואת הישר:

### שאלות:

**(28)** במשולש ABC מעבירים את התיכון AD לצלע BC.

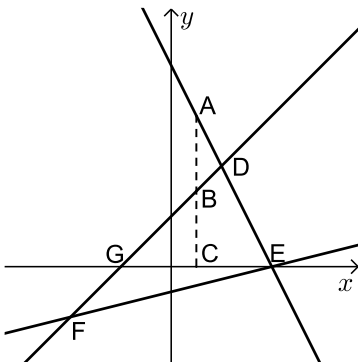
ידוע כי:  $A(3, -2)$ ,  $B(2, 4)$ ,  $D(-2, 2)$ .

- כתוב את משוואת הישר של התיכון AD.
- מצא את שיעורי הקדקוד C.
- כתוב את משוואת הישר של הצלע AC.

**(29)** נתון מעוין ABCD שבו נתונים הקודקודים A(-9,1) ו-B(5,-7).

משוואת הישר עליו מונח האלכסון AC היא  $x + 3y + 6 = 0$ .

- מצא את משוואת הישר עליו מונח האלכסון BD.
- מצא את משוואת הישר עליו מונחת הצלע BC.



**(30)** שלוש המשוואות הבאות מייצגות את הישרים המופיעים

בשרטוט:  $x - y + 2 = 0$ ,  $x - 4y - 4 = 0$ ,  $2x + y - 8 = 0$ .

הקטע AC מקביל לציר ה-y.

- חשב את שטח המשולש DEF.
- נתון:  $d_{BC} = 3$ . חשב את אורך הקטע AB.

**(31)** BD הוא התיכון לצלע AC במשולש ABC שבו נתון הקודקוד A(-6,1).

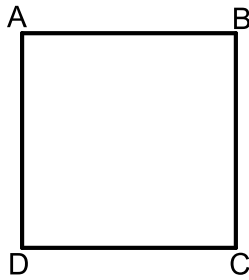
משוואת התיכון BD היא  $x - y = 1$  ומשוואת הצלע BC היא  $3x + 5y = 67$ .

מצא את שיעורי הקדקוד C.

**(32)** נתון טרפז ABCD ( $AB \parallel CD$ ) ובו משוואת השוק BC היא:  $x = 2$ .

משוואת הבסיס CD היא  $2x + 3y = 7$  וידוע כי  $A(-4, 1)$ .

- מצא את משוואת הבסיס AB.
- מצא את שיעורי הקדקודים B ו-C.
- מעבירים את האלכסון AC. הראה כי המשולש ABC הוא ישר זווית ומצא את שטחו.



**33** במרובע ABCD ידוע כי שיפוע הצלע BC הוא 3

ושיעורי הנקודה A הם: (1,4).

א. איזה מרובע הוא המרובע ABCD?  
הראה חישוב מתאים.

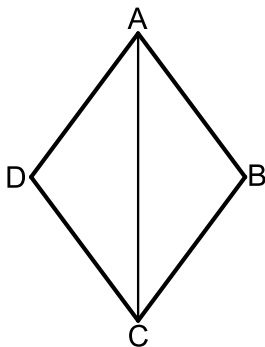
ב. נתון גם:  $D(4,13)$ ,  $m_{CD} = -\frac{1}{3}$  ו- $\sqrt{90}$  ס"מ  $BC =$ .

איזה מרובע הוא המרובע ABCD כעת?  
הראה חישוב מתאים.

ג. נתון גם:  $B(-8,7)$ .

איזה מרובע הוא המרובע ABCD כעת?  
הראה חישוב מתאים.

ד. חשב את שטח המרובע ABCD.



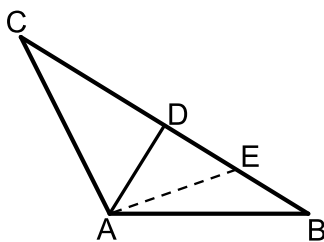
**34** המרובע ABCD הוא מעוין.

ידוע כי שיעורי אחת הנקודות במעוין הם: (0,6).

כמו כן, ידוע גם כי משוואת האלכסון AC היא:  $y = -1.5x + 6$  ואחת ממשוואות הצלעות היא:  $5y + x = 4$ .

א. מצא את משוואת האלכסון השני.

ב. מצא את שאר קדקודי המעוין.



**35** המשולש ABC הוא משולש שווה שוקיים ( $AB = AC$ ).

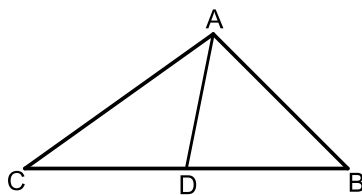
ב- $\triangle ABC$  מעבירים את הגובה AD לבסיס BC

ומסמנים נקודה E כך שמתקיים:  $DE = BE$ .  
קדקוד הראש A נמצא בראשית הצירים ונתון

כי:  $D(5,7)$ ,  $E(8.5,2.5)$ .

א. מצא את שיעורי שאר קודקודי המשולש.

ב. כתוב את משוואת השוק AC.



**36** נתון משולש ABC. הנקודה D נמצאת על הצלע BC

של המשולש ABC כך שהקטע AD מחלק אותו

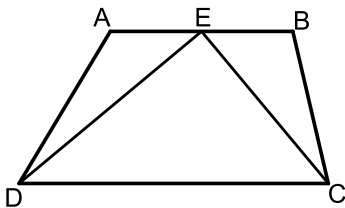
לשני משולשים שווי שטח ABD ו-ACD.

הצלע BC מונחת על הישר:  $y = 4$  וידוע כי

שיעור ה-x של הנקודה C הוא:  $x_C = -1$ .

כמו כן נתון:  $A(7,8)$ ,  $m_{AB} = -2$ .

- א. מצא את משוואת הצלע AB.  
 ב. ענה על הסעיפים הבאים:  
 i. איזה קטע הוא AD בתוך המשולש ABC?  
 ii. מצא את שיעורי הנקודות B ו-D.  
 ג. ענה על הסעיפים הבאים:  
 i. חשב את אורך הצלע BC ואת אורך הקטע AD.  
 ii. איזה משולש הוא המשולש ABC?



**37** המרובע ABCD הוא טרפז. הנקודה E היא אמצע

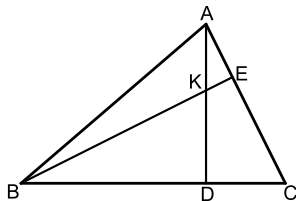
הבסיס AB וידוע כי היא נמצאת על ציר ה-x.

שיעורי הנקודה B הם (3, 2) והצלע AD מונחת

על הישר:  $x = -5$ . אורך הקטע DE הוא  $\sqrt{80}$

כך ש- $\angle DEC = 90^\circ$  ברביע השלישי וכן:

- א. מצא את שיעורי הנקודות A ו-D.  
 ב. מצא את משוואת הקטע CE ואת משוואת הבסיס CD.  
 ג. מצא את שיעורי הנקודה C.  
 ד. חשב את שטח המשולש DEC.



**38** AD ו-BE הם בהתאמה גבהים לצלעות BC ו-AC

במשולש ABC.

ידוע כי שיעורי נקודת פגישת הגבהים K הם: (1, 3).

שיעורי הנקודות D ו-E הם:  $D(-2, 4)$ ,  $E(3, 5)$ .

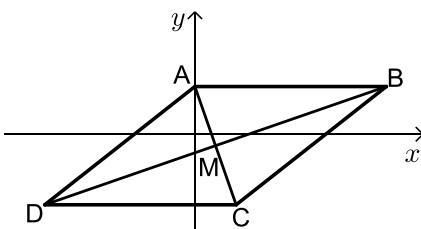
- א. מצא את משוואת הגובה AD ואת משוואת הצלע AC.  
 ב. מצא את שיעורי הקדקוד A.  
 ג. מצא את משוואת הגובה BE ואת משוואת הצלע BC.  
 ד. מצא את שיעורי הקדקוד B.

**39** נתון מעוין ABCD. ידוע כי הצלע CD מונחת על  $y = -7$ .

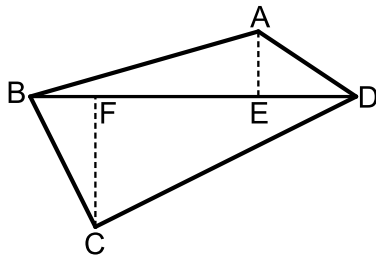
אלכסוני המעוין AC ו-BD נפגשים

בנקודה:  $M(-0.5, -3)$ . שיפוע האלכסון AC הוא -4.

- א. מצא את משוואת האלכסון AC.  
 ב. מצא את שיעורי הנקודה C.  
 ג. חשב את שטח המשולש BMC.



**40** נתון מרובע ABCD שקודקודיו הם:  $A(3,13)$ ,  $B(-2,4)$ ,  $C(9,3)$ ,  $D(8,14)$ .



מורידים גבהים AE ו-CF לאלכסון BD.

- מצא את משוואת האלכסון BD ואת אורכו.
- מצא את שיעורי הנקודות E ו-F.
- מצא את אורכי הגבהים AE ו-CF.
- חשב את שטח המרובע ABCD.

**41** על הישר  $y = -5$  מסמנים את

הנקודות:  $A(-7,-5)$ ,  $B(2,-5)$ .

הנקודה C נמצאת על הישר:  $y = x - 5$ .

נסמן את שיעור ה-x של הנקודה C ב-t.

א. הבע באמצעות t את שיעור ה-y של הנקודה C.

ב. ידוע כי אורך הצלע AC הוא 17 ס"מ.

הבע באמצעות t את המרחקים של C מ-A ומ-B.

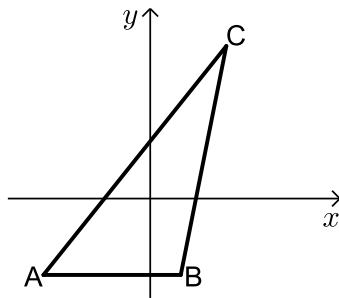
ג. מצא את t ואת אורך הצלע BC.

ד. מסמנים נקודה D על המשך הצלע AB.

ידוע כי D נמצאת ברביע השלישי.

מצא את שיעורי הנקודה D המקיימת ששטח

המשולש DAC יהיה גדול ב-16 יחידות משטח המשולש ABC.



**42** המשולש ABC הוא שווה שוקיים ( $AB = BC$ )

ובו נתון:  $A(-4,12)$ ,  $B(x,6)$  ו-  $C(4,8)$ .

א. מצא את x.

ב. הוכח כי המשולש הוא ישר זווית.

ג. ענה על הסעיפים הבאים:

i. מצא את משוואת הצלע AC.

ii. מסמנים את נקודת החיתוך של הצלע AC עם ציר ה-y ב-D.

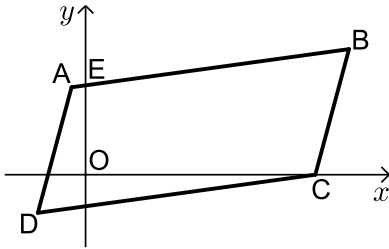
מצא את שיעורי הנקודה D.

ד. ענה על הסעיפים הבאים:

i. מצא נקודה E ברביע הראשון ( $x_E < 5$ ) כך שהמשולש DCE יהיה גם

שווה שוקיים וישר זווית ( $\sphericalangle C = 90^\circ$ ).

ii. חשב את יחס השטחים בין המשולשים:  $\frac{S_{DCE}}{S_{ABC}}$ .



43 באיור שלפניך נתונה מקבילית ABCD.

ידועים קודקודי המקבילית הבאים:  $A(-1, y)$

ו-  $B(x, 4)$ .  $x$  ו-  $y$  נעלמים).

שיפוע הצלע CD הוא 0.2 ואורכה הוא:  $d_{CD} = \sqrt{104}$ .

א. מצא את  $x$  ו-  $y$  אם ידוע כי B ברביע הראשון.

ב. נתון גם כי הקדקוד C נמצא על ציר ה- $x$  בחלקו החיובי

וכי:  $d_{BC} = \sqrt{17}$ . מצא את שיעורי הקדקוד C (מצא שתי אפשרויות).

ג. סמן את נקודת החיתוך של הצלע AB עם ציר ה- $y$  ב-E.

שטח המרובע EOCB הוא 25.9 יח"ש. מצא את האפשרות הנכונה עבור

הנקודה C מבין אלו שמצאת בסעיף הקודם.

## תשובות סופיות:

$$(28) \quad \text{א. } y = -\frac{4}{5}x + \frac{2}{5} \quad \text{ב. } C(-6, 0) \quad \text{ג. } y = -\frac{2}{9}x - \frac{4}{3}$$

$$(29) \quad \text{א. } l_{BD}: y = 3x - 22 \quad \text{ב. } l_{BC}: y = -\frac{1}{8}x - 6\frac{3}{8}$$

$$(30) \quad \text{א. } 18 \text{ יח"ש} = S_{EDF} \quad \text{ב. } 3 \text{ יחידות אורך} = AB$$

$$(31) \quad C(14, 5)$$

$$(32) \quad \text{א. } y = -\frac{2}{3}x - \frac{5}{3} \quad \text{ב. } B(2, -3), C(2, 1) \quad \text{ג. } 12 \text{ יחידות שטח} = S_{ABC}$$

(33) א. מרובע כללי כלשהו. לא ניתן להצביע על אף תכונה.

ב. מלבן. ניתן להראות כי יש למרובע שני זוגות צלעות נגדיות מקבילות ושוות וזווית ישרה.

ג. ריבוע. ניתן להראות כי קיימות זוג צלעות סמוכות שוות. ד.  $90$  יח"ש =  $S$ .

$$(34) \quad \text{א. } y = \frac{2}{3}x + 1\frac{2}{3} \quad \text{ב. } (-1, 1), (4, 0), (5, 5)$$

$$(35) \quad \text{א. } B(12, -2), C(-2, 16) \quad \text{ב. } y = -8x$$

$$(36) \quad \text{א. } y = -2x + 22 \quad \text{ב. i. תיכון - קטע במשולש שחוצה אותו לשני משולשים שווי}$$

$$\text{שטח הוא תיכון. ב. ii. } B(9, 4), D(4, 4)$$

ג. ii.  $AD = 5, BC = 10$ . ג. ii. משולש ישר זווית - אם במשולש יש תיכון לצלע ששווה

למחציתה אז המשולש הוא ישר זווית.

$$(37) \quad \text{א. } D(-5, -8), A(-5, -2), E(-1, 0) \quad \text{ב. } CE: y = -\frac{1}{2}x - \frac{1}{2}, CD: y = \frac{1}{2}x - 5\frac{1}{2}$$

$$\text{ג. } C(5, -3) \quad \text{ד. } 30 \text{ יח"ש} = S_{DEC}$$

$$(38) \quad \text{א. } AD: y = -\frac{1}{3}x + 3\frac{1}{3}, AC: y = -x + 8 \quad \text{ב. } A(7, 1)$$

$$\text{ג. } BE: y = x + 2, BC: y = 3x + 10 \quad \text{ד. } B(-4, -2)$$

$$(39) \quad \text{א. } y = -4x - 5 \quad \text{ב. } C(0.5, -7) \quad \text{ג. } 34 \text{ סמ"ר} = S_{BMC} = S_{DMC}$$

$$(40) \quad \text{א. } d_{BD} = \sqrt{200}, y = x + 6 \quad \text{ב. } E(5, 11), F(3, 9)$$

$$\text{ג. } d_{CF} = \sqrt{72}, d_{AE} = \sqrt{8} \quad \text{ד. } S_{ABCD} = 80$$

$$(41) \quad \text{א. } C(t, t-5) \quad \text{ב. i. } AC = \sqrt{2t^2 + 14t + 49}, BC = \sqrt{2t^2 - 4t + 4}$$

$$\text{ii. } 10 \text{ ס"מ} = BC, t = 8 \quad \text{ג. } D(-20, -5)$$

$$(42) \quad \text{א. } x = -2 \quad \text{ג. i. } y = -0.5x + 10 \quad \text{ii. } D(0, 10) \quad \text{ד. i. } E(2, 4)$$

$$\text{ii. } \frac{S_{DCE}}{S_{ABC}} = \frac{1}{2}$$

$$(43) \quad \text{א. } x = 9, y = 2 \quad \text{ב. } C(8, 0), C(10, 0) \quad \text{ג. } C(8, 0)$$

## חלוקת קטע ביחס נתון:

### סיכום כללי:

- שיעורי נקודה P המחלקת קטע שקצותיו  $A(x_1, y_1)$  ו-  $B(x_2, y_2)$  ביחס של  $k:l$  הם:  $x_p = \frac{k \cdot x_1 + l \cdot x_2}{k+l}$ ,  $y_p = \frac{k \cdot y_1 + l \cdot y_2}{k+l}$  (בהצלבה).

### שאלות:

- (1) הנקודה P נמצאת על הקטע AB. נתון:  $A(2, -5)$ ,  $B(-12, 16)$ .

$$\frac{AP}{PB} = \frac{2}{5} \text{ . מצא את ערכי הנקודה P, אם נתון כי}$$

- (2) קודקודי משולש ABC הם:  $A(-1, 3)$ ,  $B(6, 0)$ ,  $C(4, -12)$ .

מצא את שיעורי מרכז הכובד של המשולש.  
(מרכז כובד של משולש הוא מפגש תיכוני המשולש).

- (3) מצא את שיעורי מרכז הכובד של משולש ABC

שקודקודיו הם:  $A(x_1, y_1)$ ,  $B(x_2, y_2)$ ,  $C(x_3, y_3)$ .

- (4) קודקודי המשולש ABC הם:  $A(5, 1)$ ,  $B(7, -3)$ ,  $C(-1, 4)$ .

מצא את אורכו של חוצה הזווית היוצא מקודקוד A.

### תשובות סופיות:

(1)  $P(-2, 1)$

(2)  $M(3, -3)$

(3)  $\left( \frac{x_1 + x_2 + x_3}{3}, \frac{y_1 + y_2 + y_3}{3} \right)$

(4) 1.697 יחידות אורך.

## מרחק נקודה מישר:

### סיכום כללי:

#### הצגה כללית של ישר ומרחקים:

- הצגה כללית של ישר (צורה סתומה):  $Ax + By + C = 0$ .
- מרחק הנקודה  $A(x_1, y_1)$  מהישר  $Ax + By + C = 0$  הוא:  $d = \left| \frac{Ax_1 + By_1 + C}{\sqrt{A^2 + B^2}} \right|$  כאשר  $B > 0$ .

- אם הנקודה מעל הישר מורידים את הערך המוחלט.
- אם הנקודה מתחת לישר מורידים את הערך המוחלט ומוסיפים מינוס לאחד האגפים.

### שאלות:

#### (5) ענה על הסעיפים הבאים:

- מצא את מרחק הנקודה  $(-2, 4)$  מהישר  $4x + 3y + 11 = 0$ .
- מצא את מרחק הנקודה  $(4, 3)$  מהישר  $y = 3x - 1$ .
- מצא את מרחק הנקודה  $(3, -11)$  מהישר  $x - 5 = 0$ .

#### (6) מצא את המרחק בין הנקודה הנתונה לישר הנתון:

- $3x - 4y + 6 = 0$ ,  $A(-5, -1)$      ב.  $12x + 5y - 17 = 0$ ,  $A(-3, 8)$
- $2y + 7 = 0$ ,  $A(11, -2)$      ד.  $3x - 14 = 0$ ,  $A\left(6, -\frac{1}{2}\right)$

- (7) מצא את שיעורי הנקודות על הישר  $x + y - 7 = 0$  שמרחקן מהישר  $2x - y + 5 = 0$  הוא:  $\sqrt{20}$ .

#### (8) מצא את שטחה של מקבילית ששיעורי קודקודיה

הם:  $A(7, -1)$ ,  $B(-5, 4)$ ,  $C(-1, 7)$ ,  $D(11, 2)$ .

- (9) מצא את שטחו של המשולש  $\triangle ABC$  שבו שיעורי קדקוד  $A$  הם  $A(5, -3)$  ושניים מתיכוני המשולש מונחים על הישרים  $x - 4 = 0$  ו-  $2x - y - 1 = 0$ .
- (10) מצא את שטחו של משולש שקודקודיו הם:  $A(2, 2)$ ,  $B(-1, 1)$ ,  $C(-5, -2)$ .
- (11) מצא את שיעורי הנקודות על הישר  $3x - 2y + 6 = 0$ , שמרחקן מהישר:  $2x - y - 14 = 0$  הוא  $3\sqrt{5}$ .
- (12) מצא את שיעורי הנקודות על הישר  $4x + 3y - 20 = 0$ , שמרחקן מהישר:  $3x + 2y + 13 = 0$  הוא  $2\sqrt{13}$ .

### תשובות סופיות:

- (5) א. 3 ב.  $\frac{8}{\sqrt{10}}$  ג. 2
- (6) א. 1 ב. 1 ג.  $1\frac{1}{2}$  ד.  $1\frac{1}{3}$
- (7)  $(4, 3)$ ,  $\left(-2\frac{2}{3}, 9\frac{2}{3}\right)$
- (8)  $S_{ABCD} = 56$  יח"ש
- (9)  $S_{ABC} = 18$  יח"ש
- (10)  $S_{ABC} = 2.5$  יח"ש
- (11)  $(4, 9)$ ,  $(64, 99)$
- (12)  $(-1, 8)$ ,  $(-157, 216)$

## מיקום נקודה ביחס לישר:

### שאלות:

- 13** מצא את שיעורי הנקודה על הישר  $3x - 2y + 6 = 0$ , שמרחקה מהישר:  $2x - y - 14 = 0$  הוא  $3\sqrt{5}$  והיא נמצאת מתחתיו.
- 14** מצא את שיעורי הנקודה על הישר  $4x + 3y - 20 = 0$ , שמרחקה מהישר:  $3x + 2y + 13 = 0$  הוא  $2\sqrt{13}$  והיא נמצאת מעליו.
- 15** נתון משולש ABC שבו נתונים הקודקודים:  $A(1,1)$ ,  $B(13,6)$ . הקדקוד C נמצא על הישר  $2x - y - 19 = 0$  ונמצא מתחת לצלע AB. מצא את שיעורי הקדקוד C אם ידוע ששטח המשולש הוא 13.
- 16** נתון משולש שצלעותיו מונחות על הישרים:  
 $I: x + 2y + 1 = 0$ ,  $II: x - 2y - 11 = 0$ ,  $III: 2x - y + 6 = 0$   
 מצא שיעורי נקודה הנמצאת בתוך המשולש, שמרחקה מישר I שווה למרחקה מישר III ומרחקה מישר II הוא מחצית מהמרחק משני ישרים אלה.
- 17** מצא את שיעורי מרכז המעגל, החסום במשולש, שצלעותיו מונחות על הישרים:  $I: 4x - 3y + 2 = 0$ ,  $II: 3x - 4y - 51 = 0$ ,  $III: 3x + 4y - 11 = 0$ .
- 18** מצא משוואת ישר ששיפועו 3 אם ידוע שהנקודה  $G(7, -3)$  נמצאת מתחתיו ובמרחק  $2\sqrt{10}$  ממנו.
- 19** מצא משוואת ישר שעובר בנקודה  $A(-2, 6)$  ומרחקו מהנקודה  $B(2, 9)$  הוא  $\sqrt{5}$ .
- 20** מצא משוואת ישר שעובר בנקודה  $A(9, 10)$  ומרחקו מהנקודה  $B(8, -3)$  הוא  $5\sqrt{5}$ .
- 21** מצא משוואת ישר שעובר בנקודה  $A(3, 6)$  ומרחקו מהנקודה  $B(-9, 2)$  הוא 4.

- (22)** מצא משוואת ישר שעובר בנקודה  $A(1,2)$  ומרחקו מהנקודה  $B(-3,10)$  הוא 4.
- (23)** מצא משוואת ישר שעובר בנקודה  $A(10,8)$  ומרחקו מהנקודה  $B(7,-1)$  הוא 3.
- (24)** מצא משוואת ישר שעובר בנקודה  $A(-6,1)$  ומרחקו מהנקודה  $B(2,7)$  הוא 10.

### תשובות סופיות:

- |   |   |
|---|---|
| $(-1,8)$ <b>(14)</b>  | $(64,99)$ <b>(13)</b>   |
| $(-1,-4)$ <b>(16)</b>   | $C(11,3)$ <b>(15)</b>   |
| $y = 3x - 4$ <b>(18)</b>  | $(2,-5)$ <b>(17)</b>  |
| $y = -\frac{22}{31}x + 16\frac{12}{31}$ , $y = \frac{1}{2}x + 5\frac{1}{2}$ <b>(20)</b> | $y = 2x + 10$ , $y = \frac{2}{11}x + 6\frac{4}{11}$ <b>(19)</b> |
| $x = 1$ או $y = -\frac{3}{4}x + 2\frac{3}{4}$ <b>(22)</b>                               | $y = \frac{3}{4}x + 3\frac{3}{4}$ , $y = 6$ <b>(21)</b>         |
| $y = -\frac{4}{3}x - 7$ <b>(24)</b>   | $x = 10$ או $y = 1\frac{1}{3}x - 5\frac{1}{3}$ <b>(23)</b>      |

## מרחק בין ישרים מקבילים:

### סיכום כללי:

- מרחק בין שני ישרים מקבילים:  $Ax + By + C_1 = 0$  ו-  $Ax + By + C_2 = 0$  כאשר:  $B > 0$

$$\text{הוא: } d = \frac{|C_1 - C_2|}{\sqrt{A^2 + B^2}} \text{ ומתקיים בהעדר הערך המוחלט:}$$

- אם:  $C_1 > C_2$ ,  $(d > 0)$  אז הישר  $Ax + By + C_1 = 0$  מתחת ל-  $Ax + By + C_2 = 0$ .
- אם:  $C_1 < C_2$ ,  $(d < 0)$  אז הישר  $Ax + By + C_1 = 0$  מעל ל-  $Ax + By + C_2 = 0$ .

### שאלות:

(25) מצא משוואת ישר, המקביל לישר  $3x - 4y + 8 = 0$  ונמצא במרחק 4 ממנו.

(26) מצא את המרחק בין הישרים המקבילים:  $5x + 12y - 14 = 0$ ,  $5x + 12y + 25 = 0$ .

(27) נתונים הישרים:  $y = 6x + 5$ ,  $12x - 2y - 15 = 0$ .  
הראה שהישרים מקבילים ומצא את המרחק ביניהם.

(28) נתון המלבן ABCD. משוואותיהן של שתיים מצלעות המלבן הן  $AB: 3x + y = 0$  ו-  $CD: 3x + y - 6 = 0$ . הקדקוד B נמצא בראשית הצירים. נתון כי הצלע BC ארוכה פי 4 מהצלע BC. מצא את שטח המלבן ואת מפגש אלכסוני המלבן, אם ידוע שהוא ברביע הרביעי.

(29) צלע של ריבוע מונחת על הישר  $3x - 2y + 5 = 0$ . אלכסוני הריבוע נפגשים בנקודה  $B(1, -1)$ . מצא את משוואות הישרים עליהם מונחות הצלעות האחרות של הריבוע.

(30) נתון ישר שעובר בראשית הצירים ושיפועו חיובי. מצא את משוואת הישר אם נתון שהוא נמצא מעל הנקודות  $P(4, 1)$  ו-  $Q(7, 2)$  וסכום המרחקים ממנו לנקודות אלה הוא  $3\sqrt{10}$ .

**(31)** במשולש BKP נתון כי הצלע BK מונחת על הישר  $x - y + 3 = 0$  והצלע BP מונחת על הישר  $x + 2y + 3 = 0$ . אורך הגובה לצלע BP הוא  $3\sqrt{5}$  ואורך הגובה לצלע KP הוא 5. מצא את שיעורי קדקוד P אם ידוע שראשית הצירים נמצאת בתוך המשולש.

### תשובות סופיות:

$$3 \quad (26) \quad 3x - 4y + 28 = 0, \quad 3x - 4y - 12 = 0 \quad (25)$$

$$(2.1, -3.3), \quad S = \text{יח"ש} \quad 14.4 \quad (28) \quad \frac{25}{\sqrt{148}} \quad (27)$$

$$3x - 2y - 15 = 0, \quad y = -\frac{2}{3}x - 3\frac{2}{3}, \quad y = -\frac{2}{3}x + 3 \quad (29)$$

$$P\left(2, -2\frac{1}{2}\right) \quad (31) \quad y = 3x \quad (30)$$

# קורס מתמטיקה להנדסאי טכנולוגיות מים

פרק 19 - טריגונומטריה במרחב - התיבה והקובייה

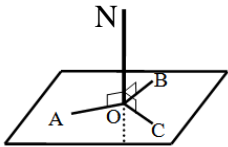
תוכן העניינים

317	.....	1. הגדרות יסודיות
320	.....	2. תיבה שבסיסה ריבוע
324	.....	3. תיבה שבסיסה מלבן
329	.....	4. הקובייה

## הגדרות יסודיות:

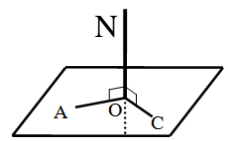
### סיכום כללי:

#### הגדרה:



ישר המאונך לכל הישרים במישור העוברים דרך עקבו נקרא אנך למישור. באיור הסמוך הישר ON מאונך לישרים AO, BO, CO שעל המישור.

#### משפט:



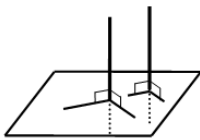
אם ישר מאונך לשני ישרים במישור העוברים דרך עקבו אזי הוא מאונך למישור כולו. באיור הסמוך הישר ON מאונך לישרים AO, CO שעל המישור ולכן מאונך למישור כולו.

#### משפט:

בכל נקודה במישור אפשר להעלות אנך אחד בלבד.

#### משפט:

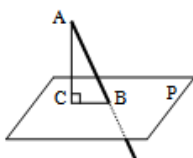
מנקודה שמחוץ למישור אפשר להוריד אנך אחד בלבד למישור זה.



#### משפט:

שני אנכים למישור אחד הם מקבילים. באיור הסמוך ניתן לראות כי שני אנכים הם מקבילים.

#### הגדרה:



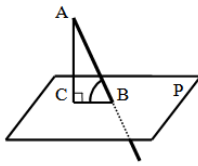
ישר החותך מישור ואינו מאונך למישור זה נקרא משופע למישור. הקטע המחבר את עקב האנך עם עקב המשופע נקרא היטל המשופע על המישור. באיור הסמוך הקטע AC הוא אנך למישור P, AB הוא משופע למישור ו-BC הוא היטל המשופע.

#### הגדרה:

אורך אנך המורד מנקודה שמחוץ למישור אל המישור נקרא מרחק הנקודה מהמישור.

**הגדרה:**

זווית בין ישר ומישור היא הזווית שבין הישר (המשופע) ובין היטלו של הישר על המישור.  
באיור הסמוך הזווית שבין הישר המשופע AB לבין המישור P היא:  $\sphericalangle ABC$ .



**הגדרה:**

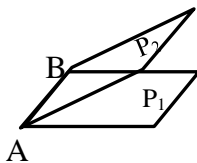
שני מישורים שאינם נחתכים נקראים מישורים מקבילים.

**הגדרה:**

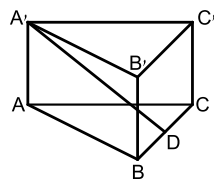
אורך האנך המורד מנקודה שעל פני מישור אחד אל מישור המקביל לו נקרא המרחק בין המישורים.

**הגדרה:**

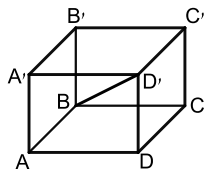
שני מישורים נחתכים יוצרים צורה גיאומטרית הנקראת פינה.  
ישר החיתוך של שני המישורים נקרא מקצוע, והמישורים היוצרים את הפינה נקראים פאות.  
באיור הסמוך הקטע AB הוא ישר החיתוך של שני המישורים  $P_1$  ו- $P_2$  הנקרא מקצוע.  
הצורות הסגורות של המישורים נקראות פאות וכל הצורה נקראת פינה.



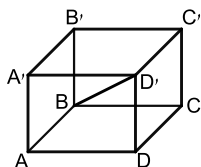
**שאלות:**



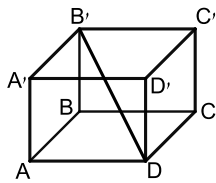
- (1) במנסרה  $ABCA'B'C'$  שבסיסה משולש שווה שוקיים ( $AB = AC$ ) הנקודה D היא אמצע המקצוע BC. סמן את הזווית בין הישר  $A'D$  לבין הבסיס ABC.



- (2) נתונה תיבה  $ABCD A'B'C'D'$ . סמן את הזווית בין האלכסון  $BD'$  לבין הבסיס ABCD.



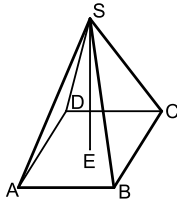
- (3) נתונה תיבה  $ABCD A'B'C'D'$  (ראה איור). סמן את הזווית בין האלכסון  $AC'$  לבין הפאה  $D'C'D$ .



4 נתונה תיבה  $ABCD A'B'C'D'$ . סמן את הזוויות בין :

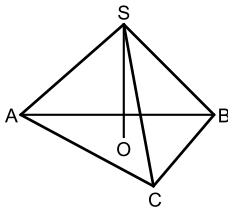
א. האלכסון  $B'D$  לבין הפאה  $B'C'CB$ .

ב. האלכסון  $B'D$  לבין הפאה  $D'C'CD$ .



5  $SABCD$  היא פירמידה ישרה שבסיסה מלבן (ראה איור).

סמן את הזווית בין המקצוע  $SB$  לבין הבסיס  $ABCD$ .



6  $SABC$  היא פירמידה ישרה שבסיסה

משולש שווה שוקיים ( $AB = AC$ ).

סמן את הזווית בין המקצוע  $SA$  לבין הבסיס  $ABC$ .

### תשובות סופיות:

1  $\sphericalangle A'DA$

2  $\sphericalangle D'BD$

3  $\sphericalangle AC'D$

4 א.  $\sphericalangle DB'C$  ב.  $\sphericalangle B'DC'$

5  $\sphericalangle SBE$

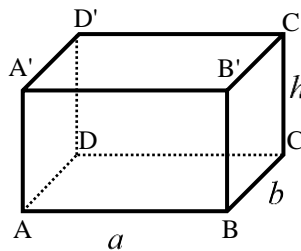
6  $\sphericalangle SAO$

## תיבה שבסיסה ריבוע:

### סיכום כללי:

#### הגדרה:

גוף מרחבי הבנוי משני מלבנים זהים מקבילים במרחב (ABCD ו-A'B'C'D') הקרויים בסיסי התיבה. כל מקצוע צדדי (AA', BB', CC', DD') נקרא גובה התיבה. המקצועות הצדדיים שווים זה לזה ומאונכים למישורי הבסיס של התיבה.

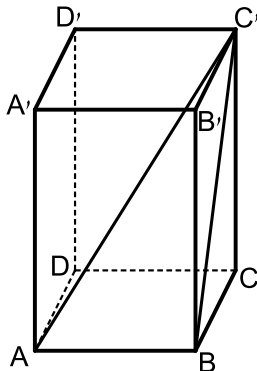


#### נוסחאות:

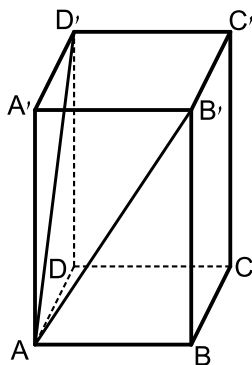
תיאור מילולי	הנוסחה
שטח בסיס התיבה	$S = a \cdot b$
נפח התיבה	$V = a \cdot b \cdot h$
שטח מעטפת התיבה	$M = 2h(a + b)$
שטח פנים	$P = 2h(a + b) + 2ab$

- תיבה שבסיסה ריבוע: תיבה שבסיסה הם ריבועים. מתקיים:  $a = b$  בכל הנוסחאות.
- קובייה: אם בסיסי התיבה הם ריבועים וגובה התיבה שווה לאורך מקצוע הבסיס, דהיינו:  $a = b = h$  אזי התיבה נקראת קובייה.

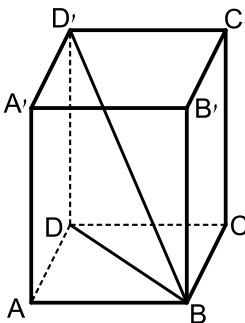
**שאלות:**



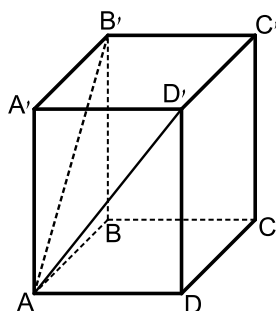
- (1) בתיבה  $ABCD A'B'C'D'$  שבסיסה ריבוע, אורך אלכסון הבסיס  $AC$  הוא  $15.2$  ס"מ. אורך המקצוע הצדדי  $AA'$  הוא  $10$  ס"מ.
- חשב אורך מקצוע הבסיס.
  - חשב נפח התיבה ושטח הפנים.
  - חשב את  $BC'$ , אלכסון הפאה  $BB'C'C$ , ואת אלכסון התיבה  $AC'$ .
  - חשב את זווית  $\sphericalangle AC'B$ , שבין האלכסון  $BC'$  בפאה  $BB'C'C$  לבין אלכסון התיבה  $AC'$ .



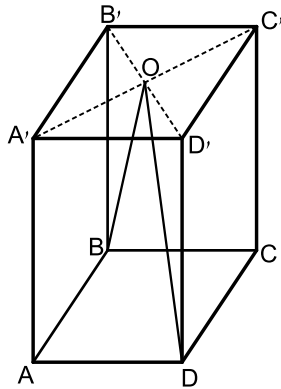
- (2) נתונה תיבה  $ABCD A'B'C'D'$  שבסיסה ריבוע. אורך האלכסון  $AD'$  של הפאה הצדדית  $ADD'A'$  הוא  $16.8$  ס"מ. הזווית שנוצרת בין שני האלכסונים  $AD'$  ו- $AB'$  היא בת  $58^\circ$ .
- חשב את אורך אלכסון הבסיס,  $B'D'$ .
  - חשב את אורך מקצוע הבסיס  $AB$ .
  - חשב את גובה התיבה  $AA'$ .
  - חשב את נפח התיבה.



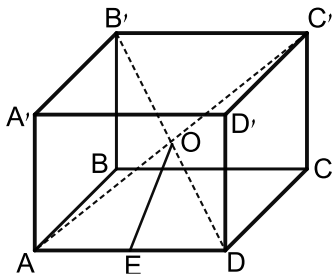
- (3) נתונה תיבה  $ABCD A'B'C'D'$  שבסיסה ריבוע. אורך אלכסון הבסיס  $BD$  הוא  $16$  ס"מ ונפח התיבה הוא  $1408$  סמ"ק. חשב:
- גובה התיבה  $DD'$ .
  - הזווית שבין אלכסון התיבה  $BD'$  לבסיס  $ABCD$ .
  - אורך מקצוע הבסיס  $AB$ .



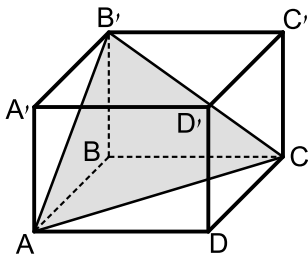
- (4) בתיבה  $ABCD A'B'C'D'$ , שבסיסה  $ABCD$  הוא ריבוע. אורך האלכסון של הפאה הצדדית הוא  $10$  ס"מ. הזווית שבין אלכסוני הפאות הצדדיות היא בת  $48^\circ$ .
- חשב את אורך האלכסון של הבסיס העליון  $B'D'$ .
  - חשב את שטח הבסיס של התיבה.



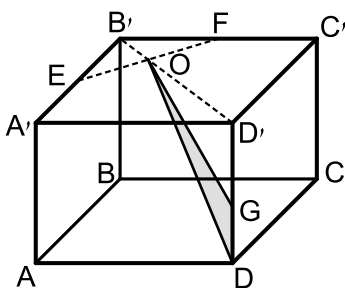
- (5) בתיבה ריבועית  $ABCD A'B'C'D'$  מעבירים את האלכסונים  $B'D'$  ו- $AC'$  במישור הבסיס העליון. האלכסונים נפגשים בנקודה  $O$  כך שנוצר המשולש  $BOD$ . נתון כי:  $\sphericalangle BOD = 23^\circ$  וכי אורך מקצוע הבסיס של התיבה הוא 6 ס"מ.
- א. חשב את היקף המשולש  $BOD$ .
- ב. חשב את הזווית שנוצרת בין הצלע  $OD$  של המשולש  $BOD$  ומישור הפאה  $AA'D'D$ .



- (6) בתיבה  $ABCD A'B'C'D'$  שבסיסה ריבוע מעבירים את האלכסונים  $AC'$  ו- $B'D'$ . האלכסונים נחתכים בנקודה  $O$  שבתוך התיבה. מהנקודה  $O$  מעבירים את הקטע  $OE$  כך ש- $E$  היא אמצע המקצוע  $AD$ . ידוע כי אורך מקצוע הבסיס של התיבה הוא 8 ס"מ ואורך אלכסון התיבה הוא 12 ס"מ.
- א. מצא את אורך גובה התיבה.
- ב. מצא את אורך הקטע  $OE$ .



- (7) בתיבה ריבועית וישרה  $ABCD A'B'C'D'$  מסמנים את אורך הגובה ב- $h$ . מעבירים את הקטעים  $AB'$  ו- $B'C$ , כך שנוצר המשולש  $AB'C$  כמתואר באיור. הזווית הנוצרת בין אנך לצלע  $AC$  במשולש  $AB'C$  ומישור הבסיס  $ABCD$  היא  $\alpha$ .
- א. הבע באמצעות  $h$  ו- $\alpha$  את אורך מקצוע הבסיס של התיבה.
- ב. הבע באמצעות  $h$  ו- $\alpha$  את נפח התיבה.



- (8) בתיבה הריבועית  $ABCD A'B'C'D'$  שלפניך מעבירים את אלכסון הבסיס העליון  $B'D'$ . הנקודות  $E$  ו- $F$  נמצאות על אמצעי המקצועות  $A'B'$  ו- $B'C'$  כך שהקטע  $EF$  חותך את האלכסון  $B'D'$  בנקודה  $O$ . מקצים נקודה נוספת  $G$  - הנמצאת על הגובה  $DD'$  כך ש:  $DG = a$ . מעבירים את הקטעים  $GO$  ו- $DO$  כך שנוצר המשולש  $DOG$ . אורך מקצוע הבסיס הוא  $k$  וגובה התיבה הוא  $h$ .
- א. הבע באמצעות  $k$  ו- $a$  את שטח המשולש  $DOG$ .
- ב. מצא את היחס:  $\frac{a}{h}$  עבורו מתקיים:  $S_{DOG} = S_{DOG}$ .

- 9) בתיבה 'ABCDA'B'C'D' הבסיס ABCD הוא ריבוע. גובה התיבה הוא  $h$ . נתון:  $\angle ADC' = \beta$ .

א. הראה כי אורך הצלע בבסיס התיבה הוא:  $\frac{\sqrt{2}h \cdot \sin\left(\frac{1}{2}\beta\right)}{\sqrt{\cos \beta}}$ .

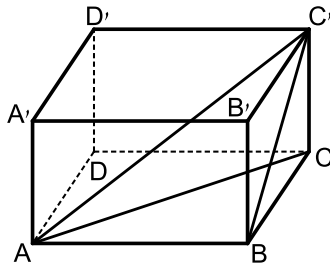
ב. לאלו ערכים של  $\beta$  יש פתרון לבעיה?

### תשובות סופיות:

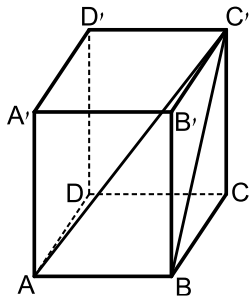
- 1) א. 10.748 ס"מ. ב. 1155.2 סמ"ק  $V$ , 660.959 סמ"ר  $S$ .  
 ג. 14.68 ס"מ, 18.19 ס"מ. ד.  $\angle AC'B = 36.21^\circ$ .
- 2) א. 16.29 ס"מ. ב. 11.518 ס"מ. ג. 12.23 ס"מ. ד. 1622.485 סמ"ק  $V$ .
- 3) א. 11 ס"מ. ב.  $34.51^\circ$ . ג. 11.313 ס"מ.
- 4) א. 8.13 ס"מ. ב. 33.09 סמ"ר.
- 5) א. 51 ס"מ. ב.  $8.1^\circ$ .
- 6) א. 4 ס"מ. ב. 4.47 ס"מ.
- 7) א.  $\frac{h\sqrt{2}}{\tan \alpha}$ . ב.  $\frac{2h^3}{\tan^2 \alpha}$ .
- 8) א.  $S_{\text{DOG}} = \frac{3ka}{4\sqrt{2}}$ . ב.  $\frac{a}{h} = \frac{1}{2}$ .
- 9) א.  $0^\circ < \beta < 90^\circ$ .

## תיבה שבסיסה מלבן:

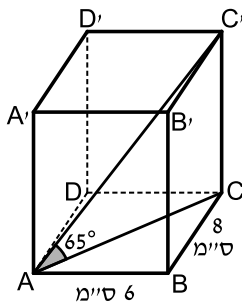
### שאלות:



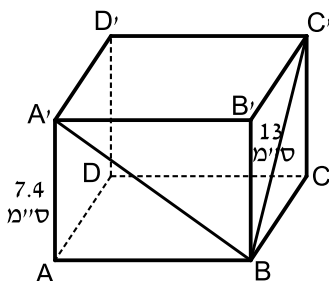
- 10** בתיבה שלפניך אורכי צלעות הבסיס הם :  
 $AB = 12$  ס"מ ,  $BC = 5$  ס"מ. הזווית בין  $BC'$  אלכסון הפאה,  $BB'C'C$ , לבסיס  $ABCD$  היא  $40^\circ$ .  
 א. חשב את גובה התיבה  $CC'$ .  
 ב. חשב את אורך אלכסון הבסיס,  $AC$ .  
 ג. חשב את הזווית בין אלכסון התיבה  $AC'$  לבסיס  $ABCD$ .  
 ד. חשב את אורך אלכסון התיבה  $AC'$ .  
 ה. חשב את נפח התיבה.  
 ו. חשב את שטח מעטפת התיבה.



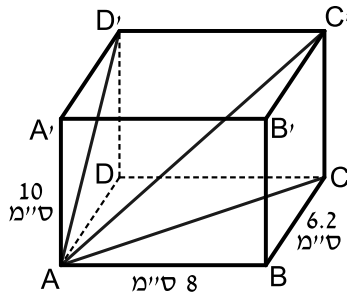
- 11** נתונה תיבה  $ABCD A'B'C'D'$ .  
 אורך צלע הבסיס :  $AB = 9$  ס"מ.  
 אלכסון הפאה  $BB'C'C$  הוא :  $BC' = 15$  ס"מ.  
 חשב את הזווית בין  $BC'$  אלכסון הפאה  $BB'C'C$ , לאלכסון התיבה  $AC'$ .



- 12** נתונה תיבה  $ABCD A'B'C'D'$ , בה מתקיים :  
 $AD = 8$  ס"מ ,  $AB = 6$  ס"מ. הזווית בין אלכסון התיבה  $AC'$  לבסיס  $ABCD$  היא בת  $65^\circ$ .  
 א. חשב את גובה התיבה  $CC'$ .  
 ב. חשב את נפח התיבה ושטח הפנים שלה.



- 13** נתונה תיבה  $ABCD A'B'C'D'$  שבסיסה מלבן. גובה התיבה  $AA'$  הוא  $7.4$  ס"מ. אורך אלכסון הפאה  $BC' = 13$  ס"מ. הזווית בין אלכסון הפאה  $A'B$  לבסיס  $ABCD$  היא בת  $37^\circ$ .  
 א. חשב את אורכי צלעות הבסיס.  
 ב. חשב את שטח המעטפת ושטח הפנים של התיבה.



14) בתיבה  $ABCD A'B'C'D'$  נתון :

$$AA' = 10 \text{ ס"מ}, AB = 8 \text{ ס"מ}, BC = 6.2 \text{ ס"מ}$$

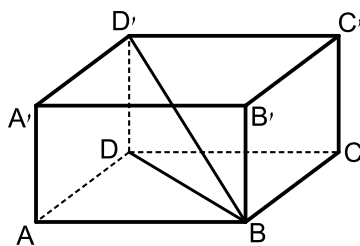
חשב את :

א. אלכסון הבסיס,  $AC$ , אלכסון הפאה,  $AD'$ , ואלכסון התיבה,  $AC'$ .

ב. הזווית בין  $AD'$ , אלכסון הפאה  $ADD'A'$ ,

לאלכסון התיבה  $AC'$  :  $\angle D'AC'$ .

ג. נפח התיבה ושטח המעטפת.



15) נתונה תיבה  $ABCD A'B'C'D'$ .  $AB = 12 \text{ ס"מ}$ .

אורך אלכסון הבסיס  $BD$  הוא  $15 \text{ ס"מ}$ .

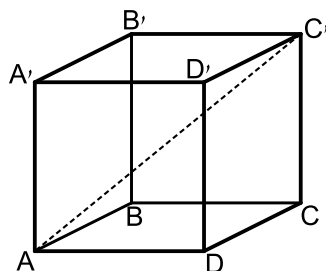
נפח התיבה הוא  $864 \text{ סמ"ק}$ .

חשב את :

א. רוחב הבסיס של התיבה,  $BC$ .

ב. גובה התיבה,  $AA'$ .

ג. הזווית בין אלכסון התיבה  $BD'$  לבסיסה  $ABCD$ .



16) בתיבה  $ABCD A'B'C'D'$  (ראה ציור), נתון :

$$AD = 12 \text{ ס"מ}, DC = 8 \text{ ס"מ}, CC' = 14 \text{ ס"מ}$$

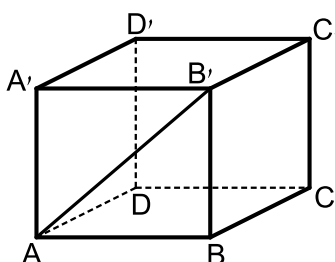
א. חשב את האורך של אלכסון הבסיס,  $AC$ .

ב. חשב את הזווית שבין אלכסון התיבה  $AC'$

לבין הבסיס  $ABCD$ .

ג. חשב את שטח המעטפת של התיבה.

ד. חשב את שטח הפנים של התיבה.



17) בתיבה  $ABCD A'B'C'D'$  (ראה ציור) נתון :

$$AD = 10 \text{ ס"מ}, AB = 12 \text{ ס"מ}$$

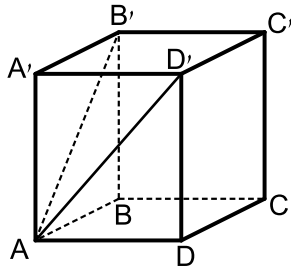
הזווית שבין אלכסון הפאה  $AB'$  לבין

הבסיס  $ABCD$  היא בת  $35^\circ$ .

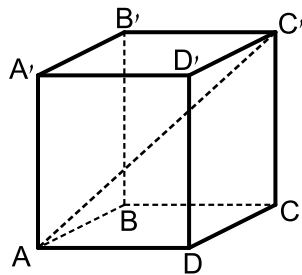
א. חשב את גובה התיבה  $BB'$ .

ב. חשב את  $AD'$ , אלכסון הפאה  $ADD'A'$ .

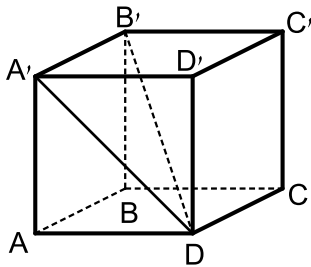
ג. חשב את הזווית שבין  $AD'$  לבין הבסיס  $ABCD$ .



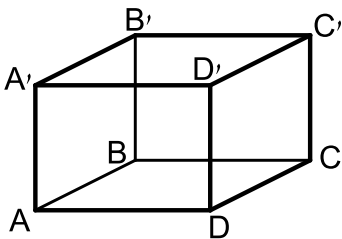
- 18** נתונה תיבה  $ABCD A'B'C'D'$  שבסיסה מלבן (ראה ציור).  
 אורך גובה התיבה  $AA'$  הוא 10 ס"מ.  
 אורך  $AB'$ , אלכסון הפאה  $ABB'A'$  הוא 14 ס"מ.  
 א. חשב את אורך המקצוע  $AB$ .  
 הזווית שבין  $AD'$ , אלכסון הפאה  $ADD'A'$ ,  
 לבין הבסיס  $ABCD$  היא בת  $40^\circ$ .  
 ב. חשב את נפח התיבה.  
 ג. חשב את שטח מעטפת התיבה.



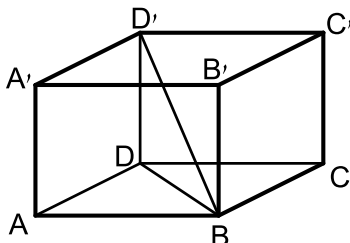
- 19** נתונה תיבה  $ABCD A'B'C'D'$  שבה  
 $AD = 12$  ס"מ,  $AB = 10$  ס"מ (ראה ציור).  
 הזווית שבין אלכסון התיבה,  $AC'$ ,  
 לבין הבסיס  $ABCD$  היא בת  $38^\circ$ .  
 א. חשב את אלכסון הבסיס.  
 ב. חשב את גובה התיבה.  
 ג. חשב את שטח פני התיבה.



- 20** נתונה תיבה  $ABCD A'B'C'D'$  (ראו סרטוט)  
 שבה:  $AA' = 8$  ס"מ,  $AD = 12$  ס"מ,  $AB = 10$  ס"מ.  
 א. חשב את אורך  $A'D$ , אלכסון הפאה  $ADD'A'$ .  
 ב. חשב את אורך האלכסון של התיבה  $B'D$ .

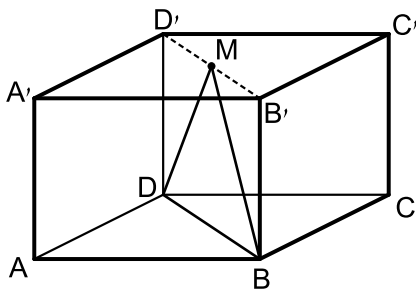


- 21** בתיבה  $ABCD A'B'C'D'$  נתון:  
 $AB = 8$  ס"מ,  $AD = 12$  ס"מ,  $AA' = 7$  ס"מ.  
 חשב את אורך האלכסון  $BD'$  ואת הזווית  
 בינו לבין בסיס התיבה.



- 22** נתונה תיבה  $ABCD A'B'C'D'$  שבסיסה מלבן.  
 מעבירים את האלכסונים  $BD$  ו- $BD'$  כך  
 שמתקיים:  $\angle DBD' = \angle ABD = \alpha$ .  
 אורך האלכסון  $BD$  יסומן ב- $a$ .  
 א. הבע באמצעות  $a$  ו- $\alpha$  את:  
 i. אורך התיבה  $AB$ .  
 ii. רוחב התיבה  $AD$ .  
 iii. גובה התיבה  $AA'$ .

ב. מצא את  $\alpha$  אם ידוע כי נפח התיבה הוא  $0.64a^3$ .



- (23)** בתיבה  $ABCDA'B'C'D'$  שבסיסה מלבן מעבירים את האלכסון  $B'D'$  בבסיס העליון. מאמצע האלכסון  $M$  מעבירים את הקטעים  $DM$  ו- $BM$  כך שנוצר המשולש ישר הזווית  $BMD$  ( $\angle BMD = 90^\circ$ ). אורך מקצוע הבסיס  $AB$  הוא  $5a$  ואורך הקטע  $DM$  הוא  $4a$ .

- הבע באמצעות  $a$  את אורך המקצוע  $AD$ .
- מעבירים את הקטע  $AM$ . חשב את זווית  $MAD$ .
- מצא את  $a$  אם ידוע כי שטח המשולש  $MAD$  הוא  $125$  סמ"ר (עגל למספר שלם).

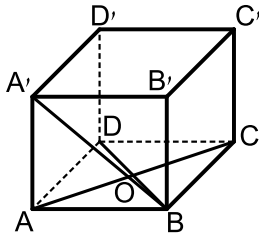
- (24)** בתיבה  $ABCDA'B'C'D'$  נתון:  $BD' = m$ . הזווית שבין האלכסון  $BD'$  לבסיס  $ABCD$  היא  $\alpha$  והזווית שבין האלכסון  $BD'$  לפאה צדדית  $ABB'A'$  היא  $\gamma$ . הבע באמצעות  $m$ ,  $\alpha$  ו- $\gamma$  את נפח התיבה.

## תשובות סופיות:

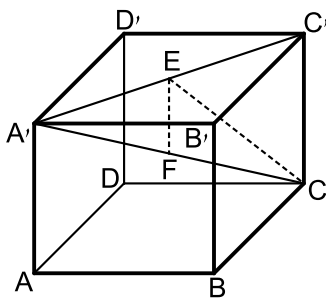
- (10) א.  $CC' = 4.195$  ס"מ, ב.  $AC = 13$  ס"מ, ג.  $17.886^\circ$   
 ד.  $AC' = 13.66$  ס"מ, ה.  $V = 251.7$  סמ"ק, ו.  $M = 142.63$  סמ"ר.
- (11)  $\angle AC'B = 30.96^\circ$ .
- (12) א.  $CC' = 21.44$  ס"מ, ב.  $V = 1029.6$  סמ"ק,  $P = 696.96$  סמ"ר.
- (13) א.  $AB = 9.82$  ס"מ,  $BC = 10.688$  ס"מ, ב.  $M = 303.5184$  סמ"ר,  $P = 513.43$  סמ"ר.
- (14) א.  $AC = 10.121$  ס"מ,  $AD' = 11.766$  ס"מ,  $AC' = 14.227$  ס"מ, ב.  $34.22^\circ$   
 ג.  $V = 496$  סמ"ק,  $M = 284$  סמ"ר.
- (15) א.  $BC = 9$  ס"מ, ב.  $h = 8$  ס"מ, ג.  $28.072^\circ$ .
- (16) א.  $AC = 14.42$  ס"מ, ב.  $44.15^\circ$ , ג.  $560$  סמ"ר, ד.  $752$  סמ"ר.
- (17) א.  $BB' = 8.4$  ס"מ, ב.  $AD' = 13.06$  ס"מ, ג.  $40.03^\circ$ .
- (18) א.  $AB = 9.8$  ס"מ, ב.  $V = 1,167.9$  סמ"ק, ג.  $434.4$  סמ"ר.
- (19) א.  $15.62$  ס"מ, ב.  $h = 12.2$  ס"מ, ג.  $776.8$  סמ"ר,  $P =$
- (20) א.  $AD' = 14.42$  ס"מ, ב.  $B'D' = 17.55$  ס"מ.
- (21)  $\angle D'BD = 25.89^\circ$ ,  $BD' = 16.031$  ס"מ.
- (22) א.  $i. \cos \alpha$ ,  $ii. a \sin \alpha$ ,  $iii. a \tan \alpha$ , ב.  $53.13^\circ$ .
- (23) א.  $a\sqrt{7}$ , ב.  $70.6^\circ$ , ג.  $a = 5$ .
- (24)  $V = m^3 \sin \alpha \cdot \sin \gamma \cdot \sqrt{\cos^2 \gamma - \sin^2 \alpha}$

## הקובייה:

### שאלות:



25) בקובייה  $ABCD A'B'C'D'$  אורך המקצוע הוא 8 ס"מ. הנקודה  $O$  היא מפגש אלכסוני הבסיס התחתון. מצא את הזווית שבין  $OA'$  לפאה  $ABB'A'$ .



26) נתונה קובייה  $ABCD A'B'C'D'$  מעבירים את האלכסון  $A'C'$  בבסיס העליון. מהנקודה  $E$  שעל האלכסון  $A'C'$  מותחים את הקטע  $CE$  השווה באורכו לקטע  $A'E$ . כמו כן מורידים גובה  $EF$  ממישור הבסיס העליון  $A'B'C'D'$  (EF מאונך ל- $A'C'$ ). הנקודה  $F$  נמצאת על האלכסון הראשי  $A'C$ . נסמן:  $\angle A'CE = \alpha$ ,  $AF = m$ . הבע באמצעות  $\alpha$  ו- $m$  את נפח הקובייה.

### תשובות סופיות:

25)  $24.095^\circ$

26)  $(m \sin 2\alpha \cos \alpha)^3$

# קורס מתמטיקה להנדסאי טכנולוגיות מים

פרק 20 - טריגונומטריה במרחב - המנסרה

תוכן העניינים

- 330 ..... 1. מנסרה שבסיסה משולש שווה צלעות.
- 332 ..... 2. מנסרה שבסיסה משולש שווה שוקיים.
- 333 ..... 3. מנסרה שבסיסה משולש ישר זווית.

## מנסרה שבסיסה משולש שווה צלעות:

### סיכום כללי:

גוף מרחבי הבנוי משני מצולעים זהים המקבילים זה לזה במרחב. המקצועות הצדדיים המחברים את קדקודי הבסיסים המתאימים נקראים גובהי המנסרה. כל גובה במנסרה ישרה מאונך למישורי הבסיס העליון והתחתון.



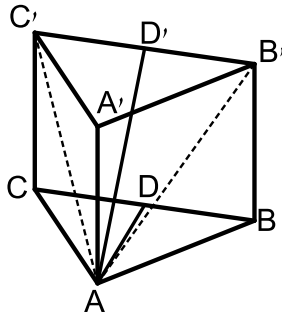
### נעסוק במנסרות הבאות:

- מנסרה שבסיסה משולש שווה צלעות.
- מנסרה שבסיסה משולש שווה שוקיים.
- מנסרה שבסיסה משולש ישר זווית.

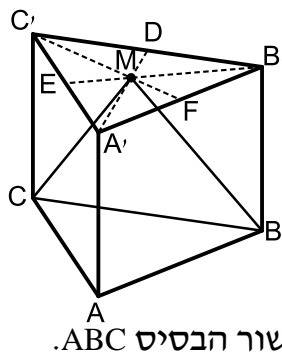
### הערה:

התיבה וקובייה הן מקרים פרטיים של מנסרות ישרות שבסיסן מלבן וריבוע בהתאמה.

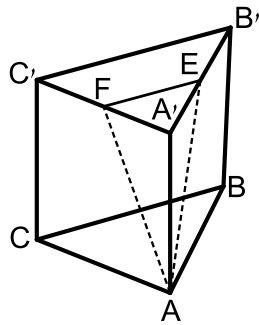
### שאלות:



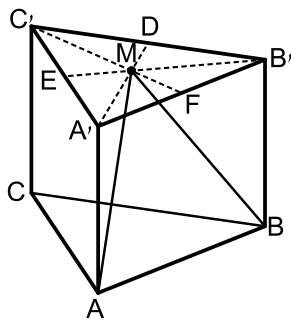
- (1) במנסרה משולשת וישרה  $ABCA'B'C'$  שבסיסה משולש שווה צלעות מעבירים את האלכסונים  $AB'$  ו- $AC'$  כך שנוצר המשולש  $AB'C'$ . הזווית שבין האנך לצלע  $BC$  במשולש  $ABC$  והאנך לצלע  $B'C'$  במשולש  $AB'C'$  היא  $40^\circ$ . אורך גובה המנסרה הוא 14 ס"מ.
- א. חשב את שטח המשולש  $AB'C'$ .
- ב. חשב את נפח המנסרה.



- (2) במנסרה משולשת וישרה  $ABCA'B'C'$  שבסיסה משולש שווה צלעות מעבירים בבסיס העליון  $A'B'C'$  את התיכונים  $A'D$ ,  $B'E$  ו- $C'F$  אשר נחתכים בנקודה  $M$ . מהנקודה  $M$  מעבירים את הקטעים  $MC$  ו- $MB$  כך שנוצר המשולש  $MCB$ .
- גובה המנסרה שווה באורכו למקצוע בסיס המנסרה. חשב את הזווית שבין האנך לצלע  $BC$  במשולש  $MCB$  למישור הבסיס  $ABC$ .



- (3) במנסרה משולשת וישרה  $ABCA'B'C'$  שבסיסה משולש שווה צלעות הנקודות E ו-F הן בהתאמה אמצעי המקצועות  $A'B'$  ו- $A'C'$ . מעבירים את הקטעים AE ו-AF, כך שנוצר המשולש AEF. אורך מקצוע הבסיס של המנסרה הוא 10 ס"מ וגובה המנסרה הוא 12 ס"מ.
- א. חשב את אורכי הצלעות של המשולש AEF.  
 ב. חשב את הזווית שבין גובה המנסרה  $AA'$  למישור המשולש AEF.



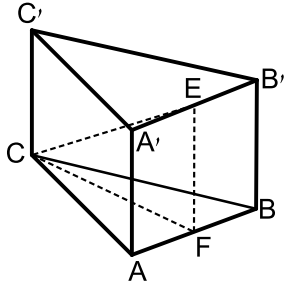
- (4) במנסרה משולשת וישרה  $ABCA'B'C'$  שבסיסה משולש שווה צלעות מעבירים בבסיס העליון  $A'B'C'$  את התיכונים  $A'D$ ,  $B'E$  ו- $C'F$  אשר נחתכים ב-M. מהנקודה M מעבירים את הקטעים MA ו-MB כך שנוצר המשולש MAB. גובה המנסרה שווה באורכו למקצוע בסיס המנסרה ויסומן ב- $2a$ .
- א. הבע באמצעות  $a$  את אורך הקטע MA.  
 ב. חשב את הזווית שבין הקטע MA ומישור הבסיס ABC.  
 ג. חשב את הזווית שבין הגובה למקצוע AB במישור MAB לבין מישור הבסיס ABC.  
 ד. חשב את הזווית שבין MA והפאה  $AA'B'B$ .  
 ה. הבע באמצעות  $a$  את שטח הפנים של המנסרה.

**תשובות סופיות:**

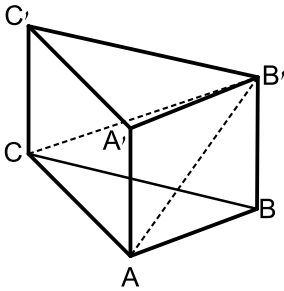
- (1) א. 160.68 סמ"ר. ב. 2250 סמ"ק.  
 (2)  $73.89^\circ$   
 (3) א. 13 ס"מ, 13 ס"מ, 5 ס"מ. ב.  $19.84^\circ$ .  
 (4) א.  $MA = 2.3a$  ב.  $60^\circ$  ג.  $73.9^\circ$  ד.  $14.47^\circ$  ה.  $P = 15.46a^2$ .

## מנסרה שבסיסה משולש שווה שוקיים:

### שאלות:



- (5) נתונה מנסרה משולשת וישרה  $ABCA'B'C'$  שבסיסה הוא משולש שווה שוקיים ( $AC = BC$ ). מאמצעי המקצועות  $A'B'$  ו- $AB$  מעבירים את הקטע  $EF$ . ידוע כי אורך מקצוע הבסיס  $AB$  הוא  $k$  ס"מ והוא קטן פי 2 מאורך שוק הבסיס  $AC$ . נסמן:  $\angle FCE = \alpha$ .  
 א. הבע באמצעות  $k$  ו- $\alpha$  את נפח המנסרה.  
 ב. חשב את נפח המנסרה אם ידוע כי:  $2EF = CE$ , וכי שטח הבסיס  $ABC$  הוא  $\sqrt{15}$  סמ"ר.



- (6) במנסרה משולשת וישרה  $ABCA'B'C'$  שבסיסה הוא משולש שווה שוקיים ( $AC = BC$ ) מעבירים את האלכסונים  $AB'$  ו- $CB'$  כך שנוצר המשולש  $AB'C$ . ידוע כי הזווית שבין אנך למקצוע  $AC$  במשולש  $ABC$  ואנך למקצוע  $AC$  במשולש  $AB'C$  היא  $45^\circ$  (האנכים נפגשים על המקצוע  $AC$  בנקודה  $E$ ).  
 זוויות הבסיס  $ABC$  הן  $\angle CAB = \angle ABC = 75^\circ$ ,  $\angle ACB = 30^\circ$ . גובה המנסרה הוא 5 ס"מ.  
 א. מצא את אורך המקצוע  $AC$ .  
 ב. חשב את הזווית שבין האלכסון  $CB'$  למישור הבסיס.

- (7) נתונה מנסרה  $ABCA'B'C'$  שבה הבסיס הוא משולש שווה שוקיים ( $AC = BC$ ), אורך השוק היא  $k$  וזווית הראש היא  $\gamma$ . הזווית שבין המישור  $ABC$  למישור  $ABC'$  היא  $\beta$ . הבע באמצעות  $k$ ,  $\gamma$  ו- $\beta$  את נפח המנסרה.

### תשובות סופיות:

א.  $V = \frac{15k^3 \tan \alpha}{8}$  (5)  
 ב.  $\frac{15}{\sqrt{3}}$  סמ"ק.

א. 10 ס"מ. (6)  
 ב.  $26.56^\circ$ .

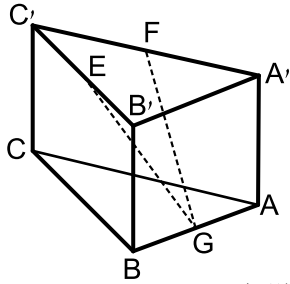
(7)  $V = \frac{1}{2} k^3 \sin \gamma \cos \frac{\gamma}{2} \tan \beta$

## מנסרה שבסיסה משולש ישר זווית:

### שאלות:

8) במנסרה  $ABCA'B'C'$  שבסיסה הוא משולש ישר זווית ( $\sphericalangle ABC = 90^\circ$ ),

הנקודות E, F ו-G הן בהתאמה אמצעי המקצועות  $B'C'$ ,  $A'C'$  ו-AB כמתואר באיור.



מסמנים את מידות הבסיס  $ABC$ :  $AB = 5t$ ,  $BC = 12t$ .

הזווית שבין הקטע GE למישור הבסיס  $ABC$  היא  $36.86^\circ$ .

א. הבע באמצעות  $t$  את גובה המנסרה.

ב. חשב את הזווית שבין הקטע GF

ולמישור הבסיס  $ABC$ .

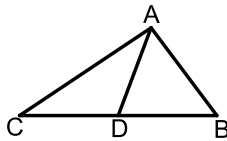
ג. מצא את  $t$  אם ידוע כי אורך הקטע GF הוא:  $\sqrt{3825}$  ס"מ.

9) ענה על הסעיפים הבאים:

א. הוכח את הטענה: תיכון במשולש חוצה אותו

לשני משולשים שווי שטח. כלומר, הקטע AD

הוא תיכון במשולש  $ABC$ . הראה כי:  $S_{ABD} = S_{ACD}$ .



במנסרה  $ABCA'B'C'$  שבסיסה הוא משולש

ישר זווית ( $\sphericalangle ABC = 90^\circ$ ) הנקודות F ו-G מחלקות

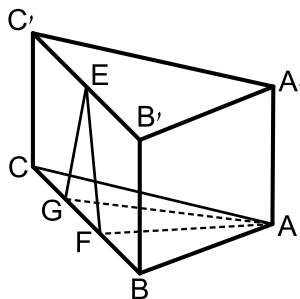
את מקצוע הבסיס BC לשלושה חלקים שווים.

הנקודה E היא אמצע המקצוע  $B'C'$ .

ידוע כי אורך הקטע EF הוא 10 ס"מ ואורך

המקצוע BC הוא 24 ס"מ.

שטח המשולש AFG הוא 40 סמ"ר.



ב. איזה משולש הוא המשולש EFG? מצא את זוויותיו.

ג. מצא את גובה המנסרה.

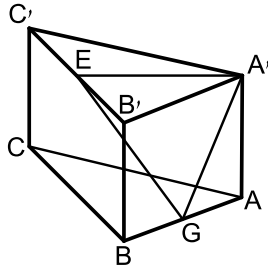
ד. היעזר בטענה שהוכחת בסעיף א' ומצא את אורך המקצוע AB.

(רמז: התבונן במשולש ABF ומצא את הצלע AB באמצעות שטחו).

ה. חשב את שטח המעטפת של המנסרה.

**10** לפניך מנסרה ישרה שבסיסה משולש ישר זווית ( $\angle ABC = 90^\circ$ ).

ידוע כי הפאה הצדדית  $AA'B'B$  היא ריבוע וכי אורך המקצוע  $BC$  גדול פי 3 מ- $AB$ . הנקודות  $E$  ו- $G$  נמצאות על אמצעי המקצועות  $B'C'$  ו- $AB$  בהתאמה.



מעבירים את הקטעים  $A'E$ ,  $A'G$  ו- $GE$ .

א. חשב את הזווית הנוצרת בין הקטע  $GE$  ומישור הבסיס.

ב. חשב את הזווית הנוצרת בין הקטע  $GE$  ומישור הפאה  $AA'B'B$ .

ג. חשב את זווית  $EA'G$ .

**תשובות סופיות:**

8) א.  $4.875t$       ב.  $39.1^\circ$       ג.  $t = 8$ .

9) א. משולש שווה שוקיים.  $66.42^\circ, 47.15^\circ$       ב.  $\sqrt{84}$  ס"מ.      ד.  $10$  ס"מ.

ה.  $60\sqrt{84}$  סמ"ר.

10) א.  $\angle EGH = 32.31^\circ$       ב.  $\angle B'GE = 53.3^\circ$

ג.  $\angle GAE = 71.93^\circ \sim 72^\circ$ .

# קורס מתמטיקה להנדסאי טכנולוגיות מים

פרק 21 - טריגונומטריה במרחב - הפירמידה

תוכן העניינים

335	1. פירמידה שבסיסה ריבוע
339	2. פירמידה שבסיסה מלבן
346	3. פירמידה שבסיסה משולש שווה צלעות
348	4. פירמידה שבסיסה משולש שווה שוקיים
349	5. פירמידה שבסיסה משולש ישר זווית

## פירמידה שבסיסה ריבוע:

### סיכום כללי:

#### הגדרה:

גוף מרחבי הבנוי ממצולע כלשהו, המהווה את בסיס הפירמידה, ומקצועות היוצאים מכל קדקודי המצולע ונפגשים בנקודה אחת הנקראת קדקוד הפירמידה. בפירמידה ישרה כל המקצועות שווים.

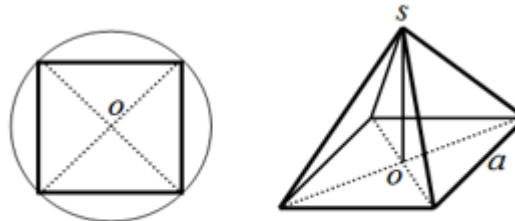
#### הגדרה:

גובה הפירמידה הוא קטע היוצא מקדקוד הראש של הפירמידה ומאונך למישור הבסיס.

#### משפט:

בפירמידה ישרה, גובה הפירמידה תמיד נופל בנקודת מרכז המעגל החוסם את מצולע הבסיס.

באיור הבא מופיע חתך מישורי של בסיס הפירמידה ובו מסומנת נקודת מרכז המעגל החוסם את המצולעים.

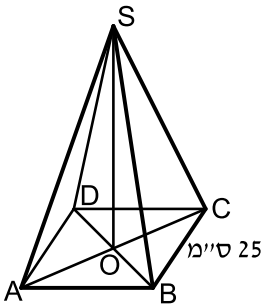


תיאור פירמידה שבסיסה ריבוע. ניתן לראות כי גובה הפירמידה נופל בנקודת פגישת האלכסונים שכן היא נקודת מרכז המעגל החוסם את הריבוע.

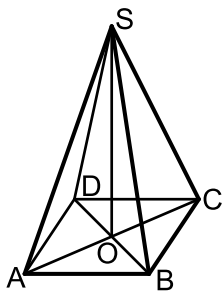
#### נפח פירמידה:

נפח פירמידה ששטח בסיסה הוא  $S$  וגובהה  $h$  הוא:  $V = \frac{S \cdot h}{3}$ .

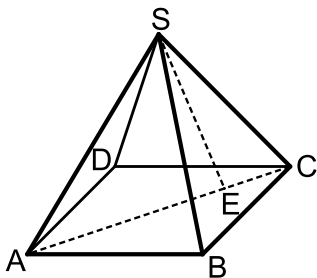
**שאלות:**



- (1) נתונה פירמידה מרובעת משוכללת (הבסיס הוא ריבוע)  $SABCD$ . אורך מקצוע הבסיס הוא 25 ס"מ. הזווית בין מקצוע צדדי לבסיס היא זווית בת  $35^\circ$ .
- חשב את אלכסון הבסיס.
  - חשב את גובה הפירמידה.
  - סמן נקודה E כאמצע BC וחשב את הזווית שבין SE לבסיס הפירמידה.

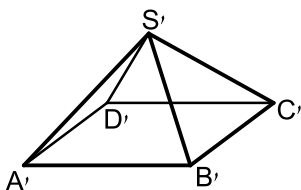
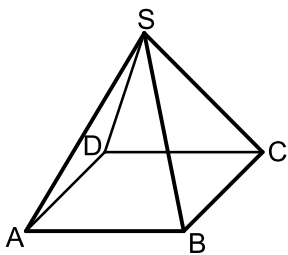


- (2) נתונה פירמידה מרובעת משוכללת  $SABCD$ . אורך מקצוע הבסיס הוא 12 ס"מ. אורך מקצוע צדדי הוא 20 ס"מ.
- חשב אורך גובה של פאה צדדית.
  - חשב את שטח הפנים של הפירמידה.
  - חשב זווית בין מקצוע צדדי לבסיס.



- (3) נתונה פירמידה ישרה  $SABCD$  שבסיסה ריבוע בעל אורך צלע  $a$ . אורך מקצועות הפירמידה הוא  $3a$ . מעבירים את האלכסון AC ועליו מסמנים את הנקודה E המחלקת אותו ביחס של  $1:3$   $\left(\frac{CE}{AE} = \frac{1}{3}\right)$ . מהקדקוד S מעבירים את הקטע SE.
- הבע באמצעות  $a$  את גובה הפירמידה.
  - חשב את הזווית הנוצרת בין הקטע SE לגובה הפירמידה.
  - מצא את  $a$  אם ידוע כי שטח המעטפת של הפירמידה הוא:  $\sqrt{560}$  סמ"ר.

- (4) נתונות שתי פירמידות ריבועיות ישרות:  $SABCD$  ו- $S'A'B'C'D'$ . אורך מקצוע הבסיס בפירמידה הראשונה הוא  $a$  וגובהה הוא  $2a$ . אורך מקצוע הבסיס בפירמידה השנייה הוא  $2a$  וגובהה הוא  $a$ .



- קבע לאיזו פירמידה יש נפח גדול יותר.
  - כעת משנים את הגובה של כל פירמידה כך שנפחן יהיה זהה והוא:  $a^3$ .
- מצא את יחס בין המקצוע הצדדי של הפירמידה  $SABCD$  למקצוע הצדדי של הפירמידה  $S'A'B'C'D'$ .
- דנה טוענת כי מאחר שנפח שתי הפירמידות זהה, הרי גם שטח הפנים שלהן זהה. האם דנה צודקת? הוכח את טענתך באמצעות חישוב מתאים.

(5) נתונה פירמידה מרובעת משוכללת וישרה. אורכו של מקצוע הבסיס הוא 10 ס"מ ואורכו של המקצוע הצדדי הוא 16 ס"מ. חשב את:

- הזווית שבין המקצוע הצדדי והבסיס.
- גובה הפירמידה.
- הזווית שבין הפאה הצדדית והבסיס.
- נפח הפירמידה.
- שטח הפנים של הפירמידה.

(6) נתונה פירמידה מרובעת, משוכללת וישרה. אורך מקצוע הבסיס הוא  $b$  והזווית שבין המקצוע הצדדי לבסיס היא  $\alpha$ . הבע באמצעות  $b$  ו- $\alpha$  את נפח הפירמידה ואת שטח המעטפת שלה.

(7) נתונה פירמידה מרובעת, משוכללת וישרה. אורכו של מקצוע הבסיס הוא  $a$  והזווית שבין שתי פאות צדדיות סמוכות היא  $\beta$ . זווית הבסיס של פאה צדדית היא  $\gamma$ . הבע באמצעות  $\beta$  את  $\sin \gamma$ .

(8) נתונה פירמידה מרובעת, משוכללת וישרה. הזווית שבין שני מקצועות צדדיים סמוכים היא  $2\alpha$  והזווית שבין שני מקצועות צדדיים נגדיים היא  $2\beta$ . הוכח:

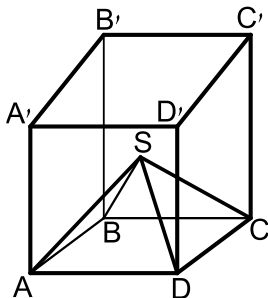
$$\frac{\sin \alpha}{\sin \beta} = \frac{1}{\sqrt{2}}$$

(9) נתונה פירמידה מרובעת, משוכללת וישרה. גובה הפירמידה הוא  $h$  והזווית שבין שתי פאות צדדיות היא  $\beta$ .

$$\frac{h}{\cos \frac{\beta}{2}} \cdot \sqrt{-2 \cos \beta} : \text{הראה כי מקצוע הבסיס של הפירמידה הוא}$$

(10) בקובייה ABCDA'B'C'D' חסומה פירמידה SABCD שבה כל המהצעות שווים. בסיס הפירמידה מונח על בסיס הקובייה.

מצא את גודל הזווית שבין המקצוע הצדדי של הפירמידה לפאה צדדית של הקובייה, שלהם קדקוד משותף.



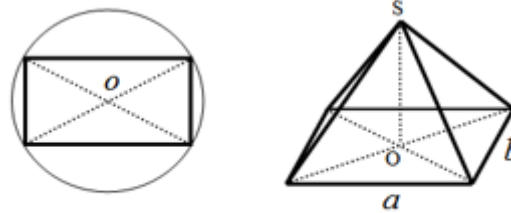
## תשובות סופיות:

- (1) א. 35.36 ס"מ    ב. 12.378 ס"מ  $h =$     ג.  $44.72^\circ$ .
- (2) א. 19.079 ס"מ    ב. 601.89 ס"מ  $P =$     ג.  $64.896^\circ$ .
- (3) א.  $a\sqrt{8.5}$     ב.  $6.9^\circ$     ג.  $a = 2$ .
- (4) א.  $V_{SABCD} = \frac{2}{3}a^3$     ב.  $V_{S'A'B'C'D'} = \frac{4}{3}a^3 > V_{SABCD}$     ג. דנה טועה -  $P_{S'A'B'C'D'} = 9a^2 \neq P_{SABCD} \approx 7a^2$ .
- (5) א.  $63.77^\circ$     ב.  $\sqrt{206}$  ס"מ    ג.  $70.79^\circ$     ד. 478.42 סמ"ק  
ה. 403.97 סמ"ר.
- (6)  $V = \frac{b^3 \tan \alpha}{3\sqrt{2}}$ ,  $M = 2b^2 \sqrt{\frac{1}{2} \tan^2 \alpha + \frac{1}{4}}$
- (7)  $\sin \gamma = \frac{1}{\sqrt{1 - \cos \beta}}$
- (8) הוכחה.
- (9) הוכחה.
- (10)  $30^\circ$ .

## פירמידה שבסיסה מלבן:

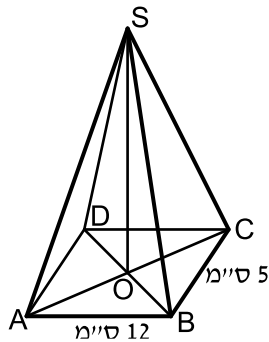
### סיכום כללי:

באיור הבא מופיע חתך מישורי של בסיס הפירמידה ובו מסומנת נקודת מרכז המעגל החוסם את המצולעים.

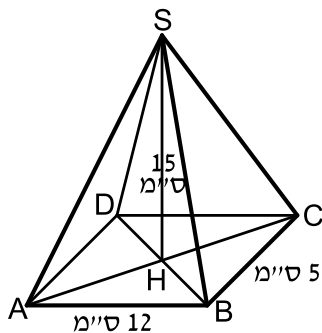


תיאור פירמידה שבסיסה מלבן. ניתן לראות כי גובה הפירמידה נופל בנקודת פגישת האלכסונים שכן היא נקודת מרכז המעגל החוסם את המלבן.

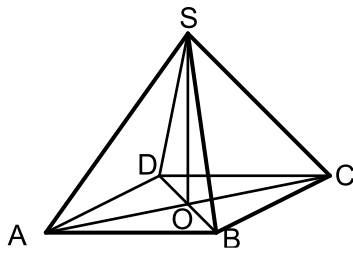
### שאלות:



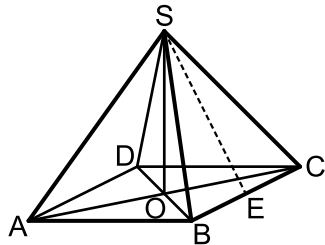
- 11 נתונה פירמידה מרובעת וישרה  $SABCD$  שבסיסה מלבן. אורכי צלעות הבסיס הם:  $AB = 12$  ס"מ,  $BC = 5$  ס"מ. אורך גובה הפירמידה הוא:  $SO = 15$  ס"מ.
- חשב את נפח הפירמידה.
  - חשב את אורך אלכסון הבסיס.
  - חשב את הזווית בין מקצוע צדדי לבסיס.



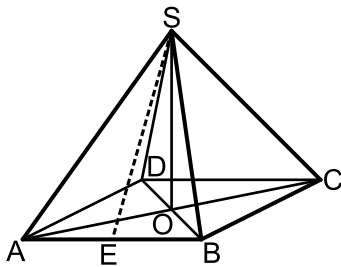
- 12 נתונה פירמידה מרובעת ישרה  $SABCD$  שבסיסה מלבן. אורכי צלעות הבסיס הם:  $AB = 12$  ס"מ,  $BC = 5$  ס"מ. אורך גובה הפירמידה הוא:  $SH = 15$  ס"מ.
- חשב את גובה הפאה הצדדית  $SBC$ .
  - חשב את גובה הפאה הצדדית  $ABS$ .
  - חשב את שטח המעטפת של הפירמידה.
  - הנקודה  $E$  היא אמצע  $BC$ . חשב את הזווית שבין  $SE$  לבסיס  $ABCD$ .



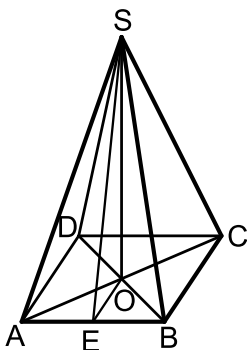
- 13** נתונה פירמידה ישרה ומרובעת שבסיסה ABCD הוא מלבן. נתון: אורך אלכסון הבסיס AC הוא 10 ס"מ. גובה הפירמידה SO הוא 12 ס"מ.
- חשב את אורך המקצוע הצדדי.
  - חשב את הזווית בין מקצוע צדדי לבסיס.
  - נתון כי זווית הראש של הפאה הצדדית SBC היא  $40^\circ$ . חשב את אורך מקצוע הבסיס BC. חשב את אורך המקצוע AB ואת נפח הפירמידה.



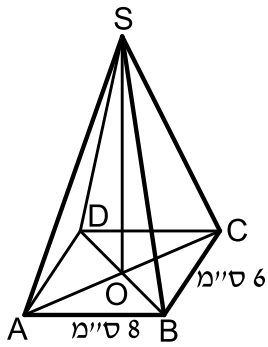
- 14** נתונה פירמידה SABCD, מרובעת וישרה שבסיסה מלבן. E אמצע BC.  $AB = 16$  ס"מ. גובה הפירמידה:  $SO = 10$  ס"מ.
- חשב את הזווית שבין הקטע SE לבסיס הפירמידה ABCD.
  - חשב את מקצוע BC אם נתון כי נפח הפירמידה הוא 480 סמ"ק.
  - סמן ב-F את אמצע המקצוע AB. חשב את הזווית שבין SF לבסיס הפירמידה.



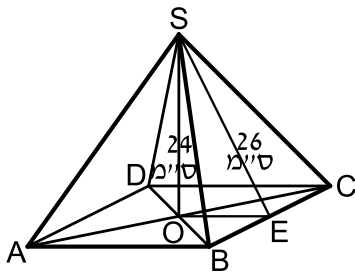
- 15** נתונה פירמידה SABCD שבסיסה מלבן. זווית הראש של פאה צדדית SAB היא  $56^\circ$ . אורך מקצוע הבסיס AB שווה ל-12 ס"מ.
- חשב את אורך הגובה SE של הפאה SAB.
  - חשב את אורך המקצוע הצדדי SA.
  - נתון כי אורך המקצוע AD הוא 8 ס"מ. חשב את גובה הפירמידה.
  - חשב את נפח הפירמידה.
  - חשב את הזווית בין הקטע SE לבסיס הפירמידה.
  - חשב זווית בין מקצוע צדדי לבסיס.



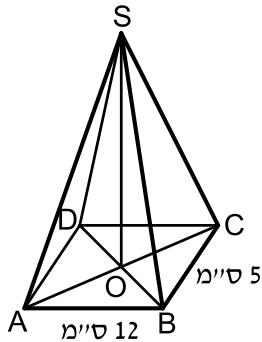
- 16** נתונה פירמידה SABCD מרובעת וישרה שבסיסה מלבן. אורך המקצוע AB הוא 15 ס"מ. הגובה SE של הפאה הצדדית SAB הוא 20 ס"מ. גובה הפירמידה SO הוא 18 ס"מ.
- חשב את אורך מקצוע הבסיס AD.
  - חשב את גובה הפאה הצדדית SBC.
  - חשב את שטח המעטפת של הפירמידה.



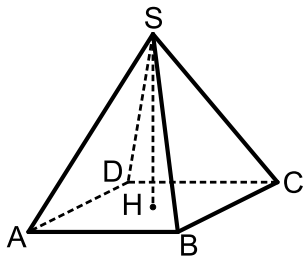
- 17** נתונה פירמידה ישרה SABCD. הבסיס ABCD הוא מלבן שבו:  $AB = 8$  ס"מ,  $BC = 6$  ס"מ. אורך מקצוע צדדי הוא 17 ס"מ.
- חשב את הזווית  $\angle CSA$ .
  - חשב את הזווית  $\angle CSB$ .
  - חשב את נפח הפירמידה.



- 18** נתונה פירמידה SABCD מרובעת וישרה שבסיסה מלבן. גובה הפירמידה שווה ל-24 ס"מ. הגובה SE בפאה הצדדית SBC שווה ל-26 ס"מ. חשב את:
- אורך המקצוע AB.
  - הזווית בין הקטע SE לבסיס ABCD.
  - נפח הפירמידה הוא 2400 סמ"ק.
  - חשב את אורך המקצוע BC.

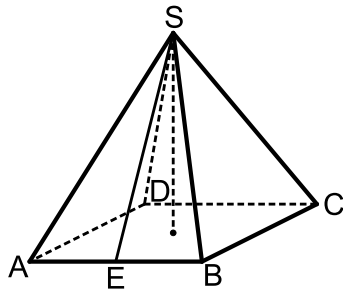


- 19** נתונה פירמידה מרובעת וישרה SABCD. בסיס הפירמידה הוא מלבן. אורכי צלעות הבסיס הם:  $BC = 5$  ס"מ,  $AB = 12$  ס"מ. זווית הראש של הפאה הצדדית SBC היא  $42^\circ$ .
- חשב אורך מקצוע צדדי.
  - חשב את שטח הפאה SBC.
  - חשב את גובה הפירמידה, SO.



- 20** הבסיס ABCD של פירמידה ישרה ומרובעת SABCD הוא מלבן (ראה ציור). נתון:  $AD = 17$  ס"מ,  $AB = 25$  ס"מ,  $SH = 12$  ס"מ.
- חשב את אלכסון הבסיס של הפירמידה.
  - חשב את המקצוע הצדדי של הפירמידה.
  - חשב את הזווית שבין מקצוע צדדי לבין בסיס הפירמידה.

**(21)** הבסיס ABCD של פירמידה ישרה ומרובעת SABCD הוא מלבן (ראה ציור).

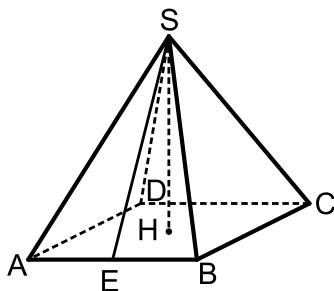


נתון:  $AD = 15$  ס"מ,  $AB = 20$  ס"מ.

הגובה של הפאה הצדדית SAB הוא  $SE = 22$  ס"מ.

- חשב את גובה הפירמידה.
- חשב את נפח הפירמידה.
- חשב את הזווית שבין הישר SE לבין בסיס הפירמידה.

**(22)** הבסיס ABCD של פירמידה ישרה ומרובעת SABCD הוא מלבן (ראה ציור).

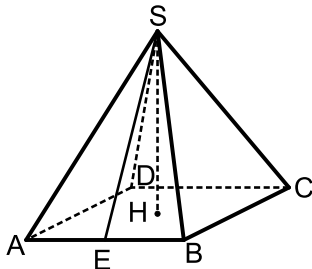


נתון:  $AD = 16$  ס"מ,  $AB = 17$  ס"מ.

הגובה של הפאה הצדדית SAB הוא  $SE = 12$  ס"מ.

- חשב את גובה הפירמידה.
- חשב את אורך המקצוע הצדדי של הפירמידה.
- חשב את הזווית שבין המקצוע הצדדי לבין בסיס הפירמידה.

**(23)** הבסיס ABCD של פירמידה ישרה ומרובעת SABCD הוא מלבן (ראה ציור).

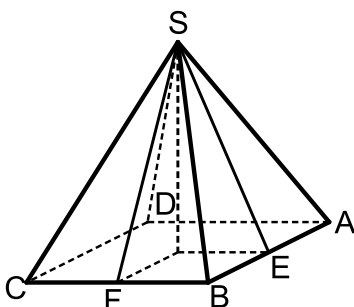


נתון:  $AB = 20$  ס"מ,  $SH = 8$  ס"מ.

הגובה של הפאה הצדדית SAB הוא  $SE = 12$  ס"מ.

- חשב את האורך AD.
- חשב את אורך DH.
- חשב את נפח הפירמידה.

**(24)** הבסיס ABCD של פירמידה ישרה ומרובעת SABCD הוא מלבן (ראה ציור).

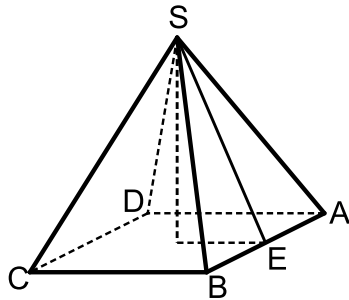


נתון:  $AB = 15$  ס"מ,  $BC = 20$  ס"מ. E היא האמצע של AB.

הזווית שבין הישר SE לבסיס היא  $55^\circ$ .

- חשב את גובה הפירמידה.
- F היא האמצע של BC. חשב את זווית שבין הישר SF לבין בסיס הפירמידה.
- חשב את גובה הפאה הצדדית SAB.
- חשב את שטח הפאה SAB.

**(25)** הבסיס ABCD של פירמידה ישרה ומרובעת SABCD הוא מלבן (ראה ציור). גובה הפירמידה הוא 17 ס"מ.



הגובה של הפאה הצדדית SAB הוא 22 ס"מ  $SE =$ .

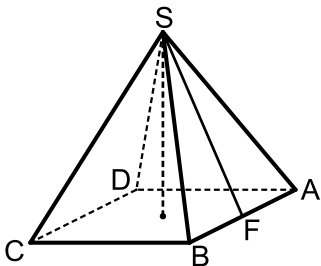
א. חשב את הזווית שבין הישר SE לבין בסיס הפירמידה.

ב. חשב את מקצוע הבסיס, BC.

ג. חשב את מקצוע הבסיס, AB.

אם נפח הפירמידה הוא 1000 סמ"ק.

**(26)** הבסיס ABCD של פירמידה ישרה ומרובעת SABCD הוא מלבן (ראה ציור). נתון:  $AD = 15$  ס"מ,  $AB = 20$  ס"מ.



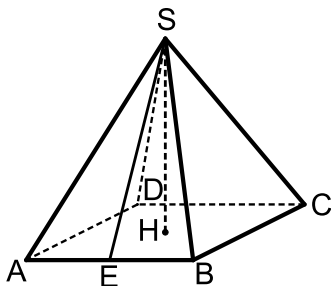
זווית הראש של הפאה הצדדית SAB היא  $38^\circ$ .

א. חשב את הגובה של הפאה הצדדית SAB.

ב. חשב את הזווית שבין SF לבין בסיס הפירמידה.

ג. חשב את גובה הפירמידה.

**(27)** הבסיס ABCD של פירמידה ישרה ומרובעת SABCD הוא מלבן (ראה ציור). נתון:  $AD = 15$  ס"מ,  $AB = 20$  ס"מ.



זווית הראש של הפאה הצדדית SAB היא  $38^\circ$ .

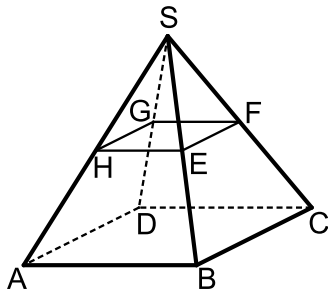
א. חשב את גובה הפאה SAB.

ב. חשב את גובה הפירמידה.

ג. חשב את זווית הראש של הפאה SAD.

**(28)** נתונה פירמידה ישרה SABCD שבסיסה מלבן.

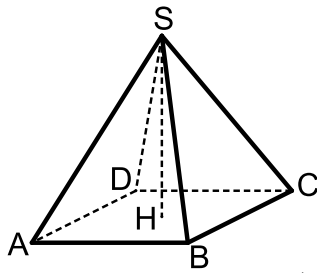
מאמצעי המקצועות הצדדיים מעבירים קטעים כך שנוצר המלבן EFGH. ידוע כי שטח מלבן זה הוא 48 סמ"ר וכי אורך האלכסון שלו הוא 10 ס"מ. הזווית HSF היא  $50^\circ$ .



א. מצא את מידות הבסיס ABCD.

ב. מצא את גובה הפירמידה.

ג. חשב את שטח הפנים של הפירמידה.



29 נתונות שתי פירמידות ישרות שבסיסן מלבן :

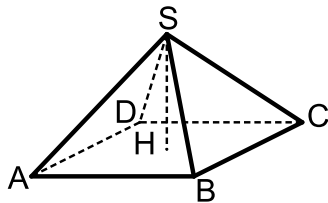
האחת-  $SABCD$  והשנייה-  $S'A'B'C'D'$ .

הקטעים  $SH$  ו- $S'H'$  הם בהתאמה הגבהים של שתי הפירמידות.

ידוע כי :  $AB = 2k$  ,  $BC = k$  ,  $HS = 3k$

וכי :  $A'B' = 3k$  ,  $B'C' = k$  ,  $H'S' = 2k$

א. לפניך מספר טענות - קבע אלו נכונות ואלו שגויות.  
נמק.



i. לשתי הפירמידות אותו שטח פנים.

ii. לשתי הפירמידות אותו הנפח.

iii. בשתי הפירמידות הזווית שבין מקצוע

צדדי לבסיס הפירמידה שווה.

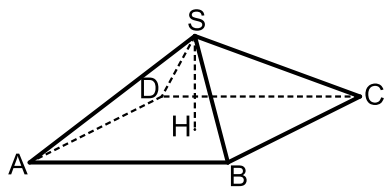
iv. אורך מקצוע צדדי בפירמידה  $SABCD$

גדול יותר מאורך מקצוע צדדי בפירמידה  $S'A'B'C'D'$ .

ב. מצא את הערך של  $k$  בעבורו סכום הנפחים

של שתי הפירמידות יהיה שווה לנפחה של קובייה

בעלת אורך מקצוע של 4 ס"מ.



30 נתונה פירמידה ישרה  $SABCD$  שבסיסה מלבן.

ידוע כי מקצוע הבסיס  $BC$  שווה באורכו לגובה

הפירמידה ויסומן ב- $t$ .

כמו כן נתון כי אלכסון הבסיס  $AC$  גדול

פי 4 מהמקצוע  $BC$ .

א. הבע באמצעות  $t$  את אורך המקצוע  $AB$ .

ב. הורד גובה  $SH$  למקצוע  $BC$  במישור הפאה  $SBC$  וחשב את הזווית

הנוצרת בינו לבין מישור הבסיס  $ABCD$ .

ג. חשב את הזווית שבין שני מקצועות צדדיים שאינם סמוכים.

ד. מסמנים את פגישת התיכונים בפאה  $SBC$  ב- $N$ .

מעבירים קטע היוצא מנקודת פגישת האלכסונים

במישור הבסיס  $ABCD$  לנקודה  $N$ .

חשב את הזווית שהוא יוצר עם הבסיס.

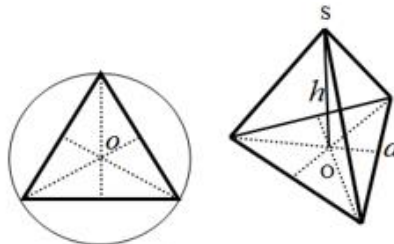
## תשובות סופיות:

- (11) א. 300 סמ"ק  $V =$  ב. 13 ס"מ ג.  $66.57^\circ$
- (12) א. 16.115 ס"מ ב. 15.207 ס"מ ג. 263.26 סמ"ר  $M =$  ד.  $68.2^\circ$
- (13) א. 13 ס"מ ב.  $67.38^\circ$  ג. 8.89 ס"מ  $BC =$  ד.  $4.579$  ס"מ  $AB =$ ,  $162.32$  סמ"ק  $V =$
- (14) א.  $51.34^\circ$  ב. 9 ס"מ  $BC =$  ג.  $65.77^\circ$
- (15) א. 11.284 ס"מ  $SE =$  ב. 12.78 ס"מ  $SA =$  ג. 10.551 ס"מ  $h =$  ד. 337.632 סמ"ק  $V =$  ה.  $69.24^\circ$  ו.  $55.65^\circ$
- (16) א. 17.435 ס"מ  $AD =$  ב. 19.5 ס"מ  $SF =$  ג. 640 סמ"ר  $M =$
- (17) א.  $34.21^\circ$  ב.  $20.328^\circ$  ג. 260 סמ"ק  $V =$
- (18) א. 20 ס"מ  $AB =$  ב.  $67.38^\circ$  ג. 15 ס"מ  $BC =$
- (19) א. 6.796 ס"מ ב. 16.282 סמ"ר  $S_{\Delta SBC} =$  ג. 2.533 ס"מ  $h =$
- (20) א. 30.23 ס"מ ב. 19.3 ס"מ ג.  $38.44^\circ$
- (21) א. 20.68 ס"מ  $h =$  ב. 2068.2 סמ"ק  $V =$  ג.  $70.07^\circ$
- (22) א. 8.94 ס"מ  $h =$  ב. 14.7 ס"מ ג.  $37.45^\circ$
- (23) א. 17.89  $AD =$  ב. 13.42 ס"מ  $DH =$  ג. 954.1 סמ"ק  $V =$
- (24) א. 14.28 ס"מ  $h =$  ב.  $62.29^\circ$  ג. 17.43 ס"מ ד. 130.7 סמ"ר
- (25) א.  $50.6^\circ$  ב. 27.93 ס"מ  $BC =$  ג. 6.32 ס"מ  $AB =$
- (26) א. 29.04 ס"מ ב.  $75.03^\circ$  ג. 28.05 ס"מ  $h =$
- (27) א. 29.04 ס"מ ב. 28.05 ס"מ  $h =$  ג.  $28.27^\circ$
- (28) א. 12 ס"מ ו-16 ס"מ. ב. 21.44 ס"מ. ג. 823 סמ"ר.
- (29) א. i. לא נכון. שטח הפנים הוא שונה:  $P_{S'ABCD} \approx 11.68k^2$ ,  $P_{SABCD} \approx 11.245k^2$ .  
 ii. נכון. הנפח הוא:  $V = 2k^3$ .  
 iii. לא נכון. הזוויות המתקבלות הן:  $51.67^\circ$ ,  $69.56^\circ$ .  
 vi. נכון. מתקבל:  $k\sqrt{10.25} > k\sqrt{6.5}$  ב.  $k = \sqrt[3]{16}$ .  
 (30) א.  $AB = t\sqrt{15}$  ב.  $\angle SHM = 27.31^\circ$  ג.  $\angle ASC = 126.86^\circ$  ד.  $\angle NMH = 14.47^\circ$ .

## פירמידה שבסיסה משולש שווה צלעות:

### סיכום כללי:

באיור הבא מופיע חתך מישורי של בסיס הפירמידה ובו מסומנת נקודת מרכז המעגל החוסם את המצולעים.



תיאור פירמידה שבסיסה משולש שווה צלעות.  
 ניתן לראות כי גובה הפירמידה נופל בנקודת פגישת  
 התיכונים (נקודת מרכז המעגל החוסם את המשולש).

### שאלות:

**31** נתונה פירמידה ישרה  $SABC$  שבסיסה הוא

משולש שווה צלעות. מעבירים את הגובה  $SD$

בפאה הצדדית  $ASB$  וכן את הגובה  $CD$  בבסיס  $ABC$ .

זווית הבסיס של פאה צדדית במנסרה היא  $50^\circ$

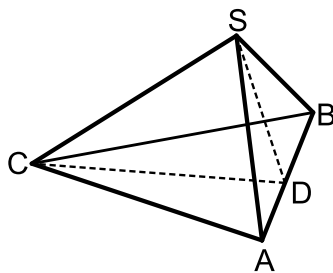
ושטח המעטפת הוא  $89.38$  סמ"ר.

א. מצא את אורך מקצוע הבסיס של המנסרה.

ב. מצא את גובה המנסרה.

ג. חשב את הזווית  $SDC$ .

ד. חשב את הזווית שבין המקצוע  $SC$  לבסיס הפירמידה.



**32** נתונה פירמידה משולשת, משוכללת וישרה.

אורכו של מקצוע הבסיס הוא  $12$  ס"מ ואורכו של המקצוע הצדדי הוא  $14$  ס"מ.

א. חשב את הזווית שבין המקצוע הצדדי ובסיס הפירמידה.

ב. חשב את גובה פירמידה.

ג. חשב את הזווית שבין הפאה הצדדית ובסיס הפירמידה.

ד. חשב את הזווית שבין שתי פאות צדדיות סמוכות בפירמידה.

**33** נתונה פירמידה משולשת, משוכללת וישרה. הזווית שבין שתי פאות צדדיות

סמוכות היא  $\beta$ . זווית הבסיס של פאה צדדית היא  $\gamma$ .

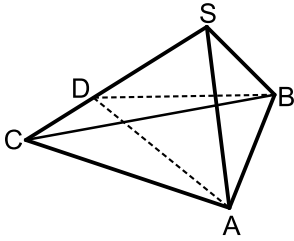
$$\text{הוכח: } \sin \gamma \cdot \sin \frac{\beta}{2} = \frac{1}{2}$$

**תשובות סופיות:**

- (31) א. 10 ס"מ.      ב. 5.21 ס"מ.      ג.  $61^\circ$       ד.  $42^\circ$ .
- (32) א.  $60.339^\circ$       ב.  $\sqrt{148}$  ס"מ.      ג.  $74.106^\circ$       ד.  $67.2^\circ$ .
- (33) הוכחה.

## פירמידה שבסיסה משולש שווה שוקיים:

### שאלות:



(34) נתונה פירמידה ישרה  $SABC$  שבסיסה הוא משולש שווה שוקיים  $(AC = BC)$ . מעבירים גבהים למקצוע  $SC$  במישורי הפאות  $SAC$  ו- $SBC$  כך שהזווית הנוצרת בין מישורים אלו היא  $\angle ADB = 42^\circ$ . ידוע כי אורך המקצוע  $AB$  הוא 8 ס"מ. הגובה  $AD$  בפאה  $SAC$  מחלק את המקצוע  $SC$  ביחס:  $\frac{DC}{SD} = \frac{2}{3}$ .

- חשב את אורך הגובה  $AD$ .
- חשב את זווית הראש בפאה  $SAC$ .
- חשב את שטח משולש הבסיס  $ABC$ .

(35) נתונה פירמידה משוכללת וישרה  $SABC$ . הבסיס הוא משולש שווה שוקיים  $(AC = BC)$ , אורך שוקו  $k$  וזווית הראש שלו היא  $2\gamma$ . אורך כל מקצוע צדדי בפירמידה גם הוא  $k$ . הבע באמצעות  $k$  ו- $\gamma$  את נפח הפירמידה.

### תשובות סופיות:

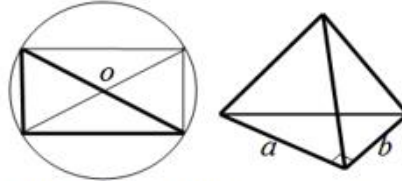
(34) א. 11.16 ס"מ. ב.  $53.13^\circ$ . ג. 47.27 סמ"ר.

$$V = \frac{k^3 \sin 2\gamma \cdot \sqrt{4 \cos^2 \gamma - 1}}{12 \cos \gamma} \quad (35)$$

## פירמידה שבסיסה הוא משולש ישר זווית:

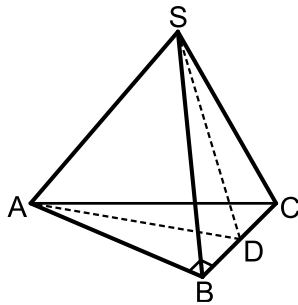
### סיכום כללי:

באיור הבא מופיע חתך מישורי של בסיס הפירמידה ובו מסומנת נקודת מרכז המעגל החוסם את המצולעים.



תיאור פירמידה שבסיסה משולש ישר זווית. ניתן לראות כי משולש הבסיס מתקבל ממלבן ע"י העברת אלכסון, לכן נקודת המרכז היא מפגש האלכסונים (בדומה לבסיס מלבני).

### שאלות:



(36) נתונה פירמידה ישרה SABC שבסיסה הוא משולש ישר זווית ( $\sphericalangle ABC = 90^\circ$ ).

בפירמידה זו מעבירים גובה SD בפאה הצדדית SBC כך שנוצר המשולש SAD. ידוע כי משולש זה הוא שווה שוקיים ובו נסמן:  $SA = AD = 2m$ .

הזווית הנוצרת בין הגובה SD והקטע AD תסומן ב- $\sphericalangle SDA = \alpha$ .

א. הראה כי הגובה SD בפאה SBC שווה באורכו למקצוע הבסיס AB.

ב. מה ניתן לומר על המשולשים SAB ו-SAD במקרה זה?

ג. הבע באמצעות  $m, \alpha$  את גובה הפירמידה.

(37) נתונה פירמידה משולשת וישרה שבסיסה משולש ישר זווית.

אחד מהניצבים במשולש הוא  $c$  והזווית שמולו היא  $\alpha$ .

הזווית שבין המקצוע הצדדי לבסיס היא  $\beta$ .

הבע באמצעות  $c, \alpha$  את נפח הפירמידה.

### תשובות סופיות:

(36) א.  $SD = AB = 4m \cos \alpha$ . ב. המשולשים חופפים. ג.  $2\sqrt{3}m \cos \alpha$ .

$$V = \frac{c^3 \tan \beta}{12 \tan \alpha \sin \alpha} \quad (37)$$

# קורס מתמטיקה להנדסאי טכנולוגיות מים

פרק 22 - חשבון דיפרנציאלי - נגזרות ומשיקים

תוכן העניינים

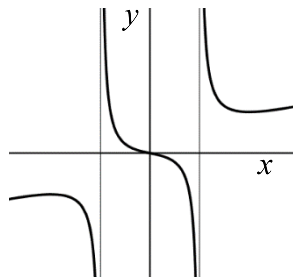
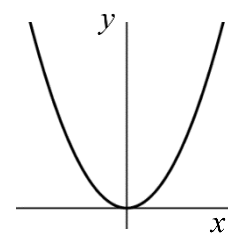
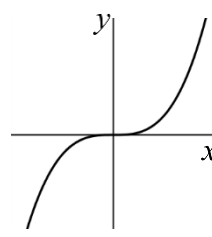
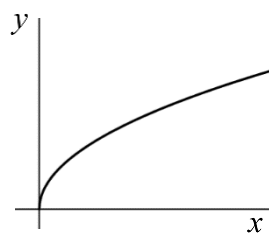
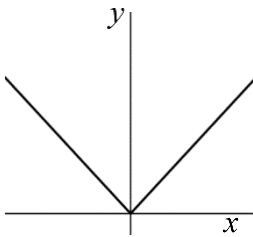
350	.....	1. הקדמה כללית
351	.....	2. גזירת פונקציות
357	.....	3. מציאת שיפוע המשיק לגרף הפונקציה
358	.....	4. מציאת משוואת המשיק לגרף הפונקציה
361	.....	5. שאלות עם פרמטרים
363	.....	6. שאלות העוסקות במציאת משוואת משיק מנקודה חיצונית

## הקדמה כללית:

### סיכום כללי:

### פונקציות נפוצות:

הפונקציה  $f(x) = x^2$  : הפונקציה  $f(x) = x^3$  : הפונקציה  $f(x) = \sqrt{x}$  : הפונקציה  $f(x) = |x|$  :



פונקציה עם מכנה, למשל:  $f(x) = \frac{5x^3 + 4x}{x^2 - 1}$  :

### שיפוע של פונקציה:

- השיפוע  $m$  של פונקציה  $f(x)$  בנקודה  $A(x_1, y_1)$  שעל הפונקציה הוא ערך הנגזרת בנקודה  $A(x_1, y_1)$ , כלומר:  $m = f'(x_1)$ .
- השיפוע של המשיק לפונקציה  $f(x)$  בנקודה  $A(x_1, y_1)$  שעל הפונקציה שווה לשיפוע הפונקציה בנקודה  $A(x_1, y_1)$ .
- משוואת המשיק לפונקציה  $f(x)$  בנקודה  $A(x_1, y_1)$  שעליה מתקבלת על ידי הנוסחה למציאת ישר:  $y - y_1 = m(x - x_1)$ .

### הנגזרת:

לכל פונקציה  $f(x)$  קיימת פונקציה, הנקראת פונקציית הנגזרת (או רק "הנגזרת") ומסומנת  $f'(x)$ , המתקבלת ממנה על פי כללי הגזירה.

## גזירת פונקציות:

### סיכום כללי:

#### כללי הגזירה:

- כלל גזירה מס' 1:  $f(x) = x^n \Rightarrow f'(x) = n \cdot x^{n-1}$
- כלל גזירה מס' 2 (כפל בקבוע):  $f(x) = ax^n \Rightarrow f'(x) = n \cdot ax^{n-1}$
- כלל גזירה מס' 3 (נגזרת של קבוע):  $f(x) = a \Rightarrow f'(x) = 0$
- כלל גזירה מס' 4 (סכום והפרש):  $f(x) = u \pm v \Rightarrow f'(x) = u' \pm v'$
- כלל גזירה מס' 5 (פונקציה מורכבת):  $f(x) = u^n \Rightarrow f'(x) = n \cdot u^{n-1} \cdot u'$
- כלל גזירה מס' 6 (נגזרת של  $\frac{1}{x}$ ):  $f(x) = \frac{1}{x} \Rightarrow f'(x) = -\frac{1}{x^2}$
- כלל גזירה מס' 7 (מכפלה):  $f(x) = u \cdot v \Rightarrow f'(x) = u'v + v'u$
- כלל גזירה מס' 8 (מנה):  $f(x) = \frac{u}{v} \Rightarrow f'(x) = \frac{u'v - uv'}{v^2}$
- כלל גזירה מס' 9 (שורש):  $f(x) = \sqrt{x} \Rightarrow f'(x) = \frac{1}{2\sqrt{x}}$

### שאלות:

#### (1) גזור את הפונקציות הבאות:

- |                             |                             |                             |
|-----------------------------|-----------------------------|-----------------------------|
| א. $f(x) = x^3$             | ב. $f(x) = x^7$             | ג. $f(x) = x^2$             |
| ד. $f(x) = x$               | ה. $f(x) = x^{-3}$          | ו. $f(x) = x^{-1}$          |
| ז. $f(x) = x^{\frac{1}{2}}$ | ח. $f(x) = x^{\frac{1}{3}}$ | ט. $f(x) = x^{\frac{3}{4}}$ |

#### (2) גזור את הפונקציות הבאות:

- |                           |                              |                                       |
|---------------------------|------------------------------|---------------------------------------|
| א. $f(x) = 2x^3$          | ב. $f(x) = 3x^7$             | ג. $f(x) = \frac{1}{2}x^4$            |
| ד. $f(x) = \frac{x^6}{7}$ | ה. $f(x) = 8x$               | ו. $f(x) = 3x^{-2}$                   |
| ז. $f(x) = \frac{4}{x}$   | ח. $f(x) = 6x^{\frac{1}{2}}$ | ט. $f(x) = \frac{x^{\frac{2}{3}}}{3}$ |

(3) גזור את הפונקציות הבאות:

$$f(x) = 12 \quad \text{א.} \quad f(x) = \frac{7}{8} \quad \text{ב.}$$

(4) גזור את הפונקציות הבאות:

$$f(x) = x^3 + 2x^2 - 3x + 5 \quad \text{א.} \quad f(x) = \frac{1}{4}x^4 - \frac{x^3}{6} + \frac{3x}{4} - \frac{2}{5} \quad \text{ב.}$$

$$f(x) = 7x^2 + 23x - 6 \quad \text{ג.} \quad f(x) = 6x^2 + 8x + 4 \quad \text{ד.}$$

$$f(x) = \frac{1}{2}x^2 - x^3 \quad \text{ה.} \quad f(x) = \frac{x^4}{8} + 67 \quad \text{ו.}$$

(5) גזור את הפונקציות הבאות:

$$f(x) = (5x - 2)^3 \quad \text{א.} \quad f(x) = (x^3 + 6)^5 \quad \text{ב.} \quad f(x) = 3(x - x^2)^2 \quad \text{ג.}$$

$$f(x) = \frac{(5-x)^3}{4} \quad \text{ד.} \quad f(x) = \frac{2(x+1)^4}{3} \quad \text{ה.}$$

(6) גזור את הפונקציות הבאות:

$$f(x) = \frac{3}{x} \quad \text{א.} \quad f(x) = -\frac{2}{x} \quad \text{ב.} \quad f(x) = \frac{1}{x^2} \quad \text{ג.}$$

$$f(x) = \frac{3}{x^3} \quad \text{ד.} \quad f(x) = \frac{1}{x^2 - 3x} \quad \text{ה.} \quad f(x) = \frac{2}{3-x} \quad \text{ו.}$$

$$f(x) = \frac{6}{x+5} \quad \text{ז.}$$

(7) גזור את הפונקציות הבאות:

$$f(x) = (5x+1)(x-3) \quad \text{א.} \quad f(x) = (5x+1)^3(x-3) \quad \text{ב.}$$

$$f(x) = x^3(6-x)^4 \quad \text{ג.} \quad f(x) = 3x^2 \cdot x \quad \text{ד.}$$

$$f(x) = x^2 \cdot x^3 \quad \text{ה.} \quad f(x) = x(3x+7) \quad \text{ו.}$$

$$f(x) = 3x^3(3x-1) \quad \text{ז.} \quad f(x) = (x-2)(2x^2+3) \quad \text{ח.}$$

$$f(x) = (3x-2)(x^2+10x) \quad \text{ט.} \quad f(x) = (3x^4-4x)(2x^2+5x+2) \quad \text{י.}$$

$$f(x) = x(x-2)(3x-4) \quad \text{יא.}$$

8) גזור את הפונקציות הבאות :

$f(x) = 2x^3(3x+5)^2$ .ב.	$f(x) = (x^2 - 4)^2$ .א.
$f(x) = (x^2 + 1)^3(2x-1)^2$ .ד.	$f(x) = (x^3 + 2)^2(x-1)^3$ .ג.

9) גזור את הפונקציות הבאות :

$f(x) = \frac{x^2 - 1}{x^2 + 3}$ .ג.	$f(x) = \frac{x^2 + 1}{5x - 12}$ .ב.	$f(x) = \frac{3x - 1}{1 + 2x}$ .א.
$f(x) = \frac{3}{x^3}$ .ו.	$f(x) = \frac{1}{x}$ .ה.	$f(x) = \frac{x^2 + 8}{x - 1}$ .ד.
$f(x) = \frac{x^3 - x^2}{2(1-x)}$ .ט.	$f(x) = \frac{(x^2 + 3)^2}{x^2 - 2}$ .ח.	$f(x) = \frac{(x-1)^2}{x+1}$ .ז.
		$f(x) = \frac{x-2}{x^2 - 4}$ .י.

10) גזור את הפונקציות הבאות :

$f(x) = \sqrt{x^3 - 1}$ .ג.	$f(x) = 4\sqrt{x+1}$ .ב.	$f(x) = \sqrt{x}$ .א.
$f(x) = \frac{x+3}{\sqrt{x}}$ .ו.	$f(x) = x^2\sqrt{x+3}$ .ה.	$f(x) = (3x+1)\sqrt{x}$ .ד.

11) גזור את הפונקציות הבאות :

$f(x) = \sqrt{2x}$ .ב.	$f(x) = \sqrt{x+1}$ .א.
$f(x) = \sqrt{10-3x}$ .ד.	$f(x) = \sqrt{3x^2 + 1}$ .ג.
$f(x) = 3x^2 - 8\sqrt{x}$ .ו.	$f(x) = \sqrt{2x^2 + 7x}$ .ה.
$f(x) = \frac{\sqrt{x}}{x}$ .ח.	$f(x) = x^2\sqrt{1-2x}$ .ז.
$f(x) = \frac{x+3}{\sqrt{1-x^2}}$ .י.	$f(x) = \frac{x\sqrt{x^2+4}}{2}$ .ט.
$f(x) = \sqrt{\frac{3-x}{x}}$ .יב.	$f(x) = \frac{2x^3 - x^2 + x - 5\sqrt{x}}{x\sqrt{x}}$ .יא.
$f(x) = \frac{x^2 + 7}{\sqrt{x^2 - 5}}$ .יד.	$f(x) = \sqrt{\frac{1+x^2}{1-x}}$ .יג.

$$f(x) = \frac{\sqrt{x+1}}{x-1} \quad \text{ט.ז.}$$

$$f(x) = \frac{\sqrt{x}}{x-1} \quad \text{ט.ו.}$$

**(12)** גזור את הפונקציות הבאות:

$$f(x) = \frac{x-2a}{x-4a} \quad \text{ג.} \quad f(x) = \frac{ax^2}{3} - \frac{x}{b} + c \quad \text{ב.}$$

$$f(x) = ax^4 - bx \quad \text{א.}$$

$$f(x) = a\sqrt{bx^2 + c} \quad \text{ד.}$$

**(13)** גזור פעמיים את הפונקציות הבאות:

$$f(x) = \frac{x^2 - 5x + 6}{2x + 10} \quad \text{ב.}$$

$$f(x) = \frac{x^2 + 2x + 4}{2x} \quad \text{א.}$$

$$f(x) = \frac{x^3}{x^2 - 4} \quad \text{ד.}$$

$$f(x) = \frac{2x^2}{(x+1)^2} \quad \text{ג.}$$

$$f(x) = \left(\frac{x+1}{x-1}\right)^3 \quad \text{ו.}$$

$$f(x) = \frac{x^3}{(x+1)^2} \quad \text{ה.}$$

**תשובות סופיות:**

- (1) א.  $3x^2$    ב.  $7x^6$    ג.  $2x$    ד. 1   ה.  $-\frac{3}{x^4}$    ו.  $-\frac{1}{x^2}$
- ז.  $\frac{1}{2\sqrt{x}}$    ח.  $\frac{1}{3\sqrt[3]{x^2}}$    ט.  $\frac{3}{4\sqrt[4]{x}}$
- (2) א.  $6x^2$    ב.  $21x^6$    ג.  $2x^3$    ד.  $\frac{6x^5}{7}$    ה. 8
- ו.  $-\frac{6}{x^3}$    ז.  $-\frac{4}{x^2}$    ח.  $\frac{3}{\sqrt{x}}$    ט.  $\frac{2}{9\sqrt[3]{x}}$
- (3) א. 0   ב. 0
- (4) א.  $3x^2 + 4x - 3$    ב.  $x^3 - \frac{x^2}{2} + \frac{3}{4}$    ג.  $14x + 23$    ד.  $12x + 8$    ה.  $x - 3x^2$    ו.  $0.5x^3$
- (5) א.  $15(5x - 2)^2$    ב.  $15x^2(x^3 + 6)^4$    ג.  $6(x - x^2)(1 - 2x)$
- ד.  $-\frac{3}{4}(5 - x)^2$    ה.  $\frac{8(x + 1)^3}{3}$
- (6) א.  $-\frac{3}{x^2}$    ב.  $\frac{2}{x^2}$    ג.  $-\frac{2}{x^3}$    ד.  $-\frac{9}{x^4}$    ה.  $-\frac{2x - 3}{(x^2 - 3x)^2}$
- ו.  $\frac{2}{(3 - x)^2}$    ז.  $-\frac{6}{(x + 5)^2}$
- (7) א.  $10x - 14$    ב.  $(5x + 1)^2(20x - 44)$    ג.  $x^2(6 - x)^3(18 - 7x)$
- ד.  $9x^2$    ה.  $5x^4$    ו.  $6x + 7$    ז.  $36x^3 - 9x^2$    ח.  $6x^2 - 8x + 3$
- ט.  $9x^2 + 56x - 20$    י.  $36x^5 + 75x^4 + 24x^3 - 24x^2 - 40x - 8$    יא.  $9x^2 - 20x + 8$
- (8) א.  $4x(x^2 - 4)$    ב.  $30x^2(x + 1)(3x + 5)$    ג.  $3(x - 1)^2(x^3 + 2)(3x^3 - 2x^2 + 2)$
- ד.  $2(2x - 1)(x^2 + 1)^2(8x^2 - 3x + 2)$
- (9) א.  $\frac{5}{(1 + 2x)^2}$    ב.  $\frac{5x^2 - 24x - 5}{(5x - 12)^2}$    ג.  $\frac{8x}{(x^2 + 3)^2}$    ד.  $\frac{(x - 4)(x + 2)}{(x - 1)^2}$
- ה.  $-\frac{1}{x^2}$    ו.  $-\frac{9}{x^4}$    ז.  $\frac{x^2 + 2x - 3}{(x + 1)^2}$
- ח.  $\frac{2x(x^2 + 3)(x^2 - 7)}{(x^2 - 2)^2}$    ט.  $-x$    י.  $-\frac{1}{(x + 2)^2}$

$$(10) \quad \text{א. } \frac{1}{2\sqrt{x}} \quad \text{ב. } \frac{2}{\sqrt{x+1}} \quad \text{ג. } \frac{3x^2}{2\sqrt{x^3-1}} \quad \text{ד. } \frac{9x+1}{2\sqrt{x}} \quad \text{ה. } \frac{x(5x+12)}{2\sqrt{x+3}}$$

$$\text{ו. } \frac{x-3}{2x\sqrt{x}}$$

$$(11) \quad \text{א. } \frac{1}{2\sqrt{x+1}} \quad \text{ב. } \frac{1}{\sqrt{2x}} \quad \text{ג. } \frac{3x}{\sqrt{3x^2+1}} \quad \text{ד. } -\frac{3}{2\sqrt{10-3x}} \quad \text{ה. } \frac{4x+7}{2\sqrt{2x^2+7x}}$$

$$\text{ו. } 6x - \frac{4}{\sqrt{x}} \quad \text{ז. } \frac{2x-5x^2}{\sqrt{1-2x}} \quad \text{ח. } -\frac{1}{2x\sqrt{x}} \quad \text{ט. } \frac{x^2+2}{\sqrt{x^2+4}} \quad \text{י. } \frac{1-3x}{(1-x^2)^{1.5}}$$

$$\text{יא. } 3\sqrt{x} - \frac{1}{2\sqrt{x}} - \frac{1}{2x\sqrt{x}} + \frac{5}{x^2} \quad \text{יב. } -\frac{3}{2x\sqrt{3x-x^2}} \quad \text{יג. } \frac{-x^2+2x+1}{2(1-x)^{1.5}\sqrt{1+x^2}}$$

$$\text{יד. } \frac{x^3-17x}{(x^2-5)^{1.5}} \quad \text{טו. } -\frac{x+1}{2\sqrt{x}(x-1)^2} \quad \text{טז. } -\frac{x+3}{2(x-1)^2\sqrt{x+1}}$$

$$(12) \quad \text{א. } 4ax^3 - b \quad \text{ב. } \frac{2ax}{3} - \frac{1}{b} \quad \text{ג. } \frac{-2a}{(x-4a)^2} \quad \text{ד. } \frac{abx}{\sqrt{bx^2+c}}$$

$$(13) \quad \text{א. } f'(x) = \frac{2x^2-8}{4x^2}, f''(x) = \frac{4}{x^3}$$

$$\text{ב. } f'(x) = \frac{2x^2+20x-62}{(2x+10)^2}, f''(x) = \frac{448}{(2x+10)^3}$$

$$\text{ג. } f'(x) = \frac{4x}{(x+1)^3}, f''(x) = \frac{4(1-2x)}{(x+1)^4}$$

$$\text{ד. } f'(x) = \frac{x^2(x^2-12)}{(x^2-4)^2}, f''(x) = \frac{8x(x^2+12)}{(x^2-4)^3}$$

$$\text{ה. } f'(x) = \frac{x^2(x+3)}{(x+1)^3}, f''(x) = \frac{6x}{(x+1)^4}$$

$$\text{ו. } f'(x) = -\frac{6(x+1)^2}{(x-1)^4}, f''(x) = \frac{12(x+1)(x+3)}{(x-1)^5}$$

---

## מציאת שיפוע המשיק לגרף הפונקציה:

---

שאלות:

(14) מצא את שיפוע הפונקציה  $f(x) = 2x^3 - 7x$  בנקודה  $(2, 2)$ .

(15) מצא את שיפוע הפונקציה  $f(x) = \frac{1}{x^2 - 3}$  בנקודה בה  $x = -2$ .

(16) מצא את שיפוע המשיק לפונקציה  $f(x) = 4\sqrt{x}$  בנקודה בה  $x = 1$ .

תשובות סופיות:

$$m = 17 \quad (14)$$

$$m = 4 \quad (15)$$

$$m = 2 \quad (16)$$

## מציאת משוואת המשיק לגרף הפונקציה:

---

שאלות:

(17) מצא את משוואת המשיק לפונקציה  $f(x) = 2(4x+3)^3$  בנקודה בה  $x = -1$ .

(18) מצא את משוואת המשיק לפונקציה  $f(x) = \frac{8}{x+1}$  בנקודה בה  $y = 2$ .

(19) מצא את משוואות המשיקים לפונקציה  $f(x) = x^2 - 2x - 8$  בנקודות החיתוך שלה עם ציר ה- $x$ .

(20) מצא את משוואת המשיק לפונקציה  $f(x) = x^4 - 2x$  ששיפועו 2.

(21) מצא את משוואת המשיק לפונקציה  $f(x) = \frac{x^3 + 3x - 1}{x^2 - 2}$  בנקודה שבה  $x = 1$ .

(22) נתון כי הישר  $2y - 3x = 3$  משיק לגרף הפונקציה  $f(x) = 3\sqrt{x}$ . מצא את נקודת ההשקה.

(23) מצא את משוואת המשיק לפונקציה  $f(x) = \frac{1}{x} + \sqrt{x}$  בנקודה בה  $x = 1$ .

(24) מצא את משוואת המשיק לפונקציה  $f(x) = 3x^2 - 8\sqrt{x}$  בנקודה בה  $x = 4$ .

(25) נתונה הפונקציה הבאה  $f(x) = 4x - 2\sqrt{x}$ .

א. מצא את משוואת המשיק לגרף הפונקציה המקביל לישר  $f(x) = 3x - \frac{1}{2}$ .

ב. מצא את נקודת החיתוך של המשיק עם ציר ה- $x$ .

(26) מצא את משוואת המשיק לפונקציה  $f(x) = \frac{4}{\sqrt{x-1}}$  ששיפועו -2.

(27) מצא את משוואות המשיק לפונקציה  $f(x) = \frac{x-3}{\sqrt{x^2-x+2}}$  בנקודה שבה  $x=2$ .

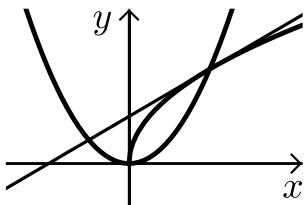
(28) מצא את משוואות המשיקים לפונקציה  $f(x) = \frac{1}{3x^3}$  היוצרים עם הכיוון החיובי של ציר ה- $x$  זווית של  $135^\circ$ .

(29) מצא את משוואות המשיקים המשותפים לפונקציות הבאות:  $y = x^2$ ,  $y = -\frac{1}{4}x^2 - 5$ .

(30) נתונה הפונקציה:  $f(x) = \frac{\sqrt{x^2+3}}{x}$  ונתון הישר:  $y = 2x$ .

- מצא את נקודת החיתוך של הפונקציה והישר הנמצאת ברביע הראשון.
- מצא את משוואות המשיק לגרף הפונקציה בנקודה שמצאת בסעיף הקודם.
- חשב את השטח שנוצר בין המשיק והצירים.

(31) באיור שלפניך מתוארים הגרפים של הפונקציות:  $f(x) = \sqrt{x}$ ,  $g(x) = x^2$ .



- מצא את נקודות החיתוך של הגרפים.
- מצא את משוואת המשיק לגרף הפונקציה  $f(x)$  העובר דרך נקודת החיתוך שמצאת הנמצאת ברביע הראשון.
- מצא את נקודת החיתוך הנוספת של המשיק שמצאת עם גרף הפונקציה  $g(x)$ .

**תשובות סופיות:**

**(17)**  $y = 24x + 22$

**(18)**  $y = -\frac{1}{2}x + 3\frac{1}{2}$

**(19)**  $y = 6x - 24, y = -6x - 12$

**(20)**  $y = 2x - 3$

**(21)**  $y = -12x + 9$

**(22)**  $(1, 3)$

**(23)**  $y = -\frac{1}{2}x + 2\frac{1}{2}$

**(24)**  $y = 22x - 56$

**(25)**  $y = 3x - 1$  .א  $\left(\frac{1}{3}, 0\right)$  .ב

**(26)**  $y = -2x + 8$

**(27)**  $y = \frac{11}{16}x - \frac{15}{8}$

**(28)**  $y = -x + 1\frac{1}{3}, y = -x - 1\frac{1}{3}$

**(29)**  $y = 2x - 1, y = -2x - 1$

**(30)** .א  $(1, 2)$  .ב  $y = -1.5x + 3.5$  .ג  $S = 4\frac{1}{12}$

**(31)** .א  $(0, 0), (1, 1)$  .ב  $y = 0.5x + 0.5$  .ג  $(-0.5, 0.25)$

## שאלות עם פרמטרים:

---

### שאלות:

**(32)** שיפוע המשיק לפונקציה  $f(x) = ax^2 - 4x$  בנקודה שבה  $x = 3$  הוא 8. מצא את ערכו של הפרמטר  $a$  ואת משוואת המשיק.

**(33)** נתונה הפונקציה  $f(x) = \sqrt{ax}$ ,  $(a > 0)$ .

המשיק לפונקציה בנקודה שבה  $x = \frac{1}{2}$  הוא בעל שיפוע 1. מצא את ערך הפרמטר  $a$ .

**(34)** נתונה הפונקציה:  $y = x^3 + a\sqrt{x}$  ( $a$  פרמטר).

שיפוע המשיק לגרף הפונקציה בנקודה שבה  $x = 1$  הוא 5. מצא את ערך הפרמטר  $a$ .

**(35)** נתונה הפונקציה:  $y = 2\sqrt{x} - \frac{A}{x}$  ( $A$  פרמטר).

שיפוע המשיק לגרף הפונקציה בנקודה שבה  $x = 1$  הוא 2. מצא את ערך הפרמטר  $A$ .

**(36)** הישר  $y = 4x + b$  משיק לגרף הפונקציה  $f(x) = \frac{2}{x^2} + 3$ .

מצא את  $b$  ואת נקודת ההשקה.

**(37)** שיפוע המשיק לפונקציה  $f(x) = \frac{2}{ax+3}$  בנקודה שבה  $y = 2$  הוא -4.

מצא את ערכו של הפרמטר  $a$  ואת משוואת המשיק.

**(38)** הישר  $y = ax + \frac{1}{2}$  משיק לגרף הפונקציה  $g(x) = \frac{2}{x+c}$  בנקודה  $x = 0$ .

מצא את ערכי הפרמטרים  $a$  ו- $c$ .

**(39)** הישר  $y = 3x$  משיק לגרף הפונקציה  $f(x) = x\sqrt{x} + b$ .

מצא את  $b$  ואת נקודת ההשקה.

**(40)** שיפוע המשיק לפונקציה  $f(x) = \frac{a}{\sqrt{bx-1}}$  בנקודה  $(1, 6)$  הוא  $-6$ .

מצא את ערכי הפרמטרים  $a$  ו- $b$  ואת משוואת המשיק.

**(41)** לאילו ערכי  $k$  ישיק הישר  $y = -5x + 6$  לגרף הפונקציה  $f(x) = x^3 - 2x^2 - 4x + k$ ?  
לכל ערך כזה של  $k$  מצא את נקודת ההשקה.

**(42)** הפונקציות  $y = \frac{1}{x}$  ו- $y = -\frac{1}{2}x^2 + k$  משיקות זו לזו.

מצא את  $k$  ואת נקודת ההשקה.

### תשובות סופיות:

**(32)**  $a = 2, y = 8x - 18$

**(33)**  $a = 2$

**(34)**  $a = 4$

**(35)**  $A = 1$

**(36)**  $(-1, 5), y = 4x + 9$

**(37)**  $a = 2, y = -4x - 2$

**(38)**  $a = -\frac{1}{8}, c = 4$

**(39)**  $b = 4, (4, 12)$

**(40)**  $b = 2, a = 6, y = -6x + 12$

**(41)**  $k = 6 : (1, 1)$  או  $k = \frac{158}{27} : \left(\frac{1}{3}, \frac{13}{3}\right)$

**(42)**  $(1, 1), k = 1.5$

## שאלות העוסקות במציאת משוואת משיק מנקודה חיצונית:

---

### שאלות:

43) ענה על הסעיפים הבאים:

- א. בטא באמצעות  $t$  את משוואת המשיק לפונקציה  $f(x) = x^2 + 1$  בנקודה שבה  $x = t$ .
- ב. מצא את ערכיו של  $t$  אם נתון שהמשיק עובר בנקודה  $(-1, 1)$ .

44) מצא את משוואות המשיקים לגרף הפונקציה:  $f(x) = 5x - x^2$  העוברים דרך הנקודה  $(3, 7)$ .

45) מצא את משוואות המשיקים לגרף הפונקציה:  $f(x) = x^2 + 5x - 6$  העוברים דרך הנקודה  $(0, -10)$ .

46) מצא את משוואות המשיקים לגרף הפונקציה:  $f(x) = 12x - x^3$  העוברים דרך הנקודה  $(2, 24)$ .

47) מצא את משוואת המשיק לפונקציה  $f(x) = \frac{1}{\sqrt{x}}$  העובר בנקודה  $(3, 0)$ .

48) מצא משוואת המשיק לפונקציה:  $f(x) = \frac{1}{\sqrt{x}}$  אם ידוע ששטח המשולש שהוא יוצר עם הצירים הוא 4.5 יחידות שטח.

49) מצא את משוואות המשיקים לגרף הפונקציה:  $f(x) = \frac{2}{\sqrt{x-2}}$  העוברים דרך הנקודה  $(2, 3)$ .

### תשובות סופיות:

ב.  $t = 0, -2$ .

(43)  $y = 2tx - t^2 + 1$  א.

(44)  $y = x + 4$  ,  $y = -3x + 16$

(45)  $y = 9x - 10$  ,  $y = x - 10$

(46)  $y = 12x$  ,  $y = -15x + 54$

(47)  $y = -\frac{1}{2}x + 1\frac{1}{2}$

(48)  $y = -\frac{1}{16}x + \frac{3}{4}$

(49)  $y = -x + 5$

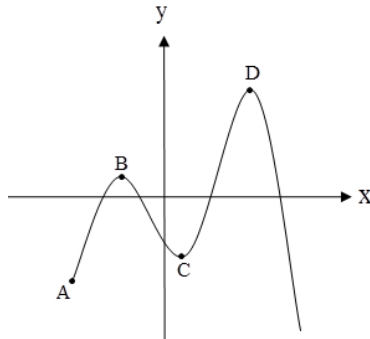
# קורס מתמטיקה להנדסאי טכנולוגיות מים

פרק 23 - חשבון דיפרנציאלי - חקירת פונקצית פולינום

תוכן העניינים

365	.....	1. נקודות קיצון של פונקציות
368	.....	2. חקירת פונקציה פולינומית
372	.....	3. פונקציה זוגית ואי-זוגית

## נקודות קיצון של פונקציות:



### סיכום כללי:

#### נקודות קיצון (נקודות מינימום/מקסימום):

- מינימום או מקסימום מקומי (פנימי) – B, C, D.
- מינימום או מקסימום קצה – A.
- מינימום או מקסימום מוחלט – D.

#### נקודות קיצון מקומיות:

- שיפוע המשיק לפונקציה בנקודות קיצון מקומיות הוא אפס.
- בנקודה שבה שיפוע המשיק לפונקציה הוא אפס תיתכן נקודת קיצון מקומית.
- נקודה כזו נקראת נקודה חשודה כקיצון. ניתן לבדוק אם היא אכן נקודת קיצון.

#### שלבים למציאת נקודות קיצון מקומיות:

- נגזור את הפונקציה.
- נשווה את הנגזרת לאפס ונחלץ את ערכי ה- $x$  של הנקודות החשודות כקיצון.
- נציב את ערכי ה- $x$  מסעיף ב' בפונקציה המקורית לקבלת ערכי ה- $y$ .
- נקבע אם הנקודה היא נקודת קיצון ונסווג את סוג הקיצון על ידי טבלה.

### שאלות:

(1) מצא את נקודות הקיצון של הפונקציה  $f(x) = 10x - x^2$ .

(2) נתונה הפונקציה  $f(x) = x^3 - 12x$ .

- א. מהן נקודות הקיצון של הפונקציה?  
 ב. מהם תחומי העלייה והירידה של הפונקציה?

- (3) נתונה הפונקציה  $f(x) = x^4 - 10x^2 + 9$ .
- א. מהן נקודות הקיצון של הפונקציה?  
 ב. מהם תחומי העלייה והירידה של הפונקציה?
- (4) נתונה הפונקציה  $f(x) = x^4 - 4x^3 + 32$ .
- א. מהן נקודות הקיצון של הפונקציה?  
 ב. מהם תחומי העלייה והירידה של הפונקציה?
- (5) לפונקציה  $f(x) = ax - x^3 - 5$  יש נקודת קיצון בנקודה שבה  $x = -1$ . מצא את ערכו של הפרמטר  $a$ .
- (6) נתונה הפונקציה  $f(x) = ax^3 + x^2$ . ידוע שהנקודה  $x = 1$  נקודת קיצון. מצא את הקבוע  $a$ .
- (7) לפונקציה  $f(x) = Ax^3 + Bx^2 - 1$  יש נקודת קיצון ששיעוריה:  $(2, 3)$ . מצא את ערכי הפרמטרים  $A, B$ .
- (8) לפונקציה  $f(x) = Ax^3 + Bx^2 - 4x$  יש נקודת קיצון ב- $x = -1$  ו- $x = 4$ . מצא את הפרמטרים ואת שיעור ה- $y$  של שתי נקודות הקיצון.
- (9) נתונה הפונקציה  $f(x) = ax^3 + bx^2$ . ידוע שהנקודה  $(1, 2)$  נקודת קיצון. מצא את הפרמטרים  $a, b$ .
- (10) לפונקציה  $f(x) = ax^4 + bx^2 + 35$  יש נקודת קיצון ששיעוריה  $(2, 3)$ . מצא את ערכי הפרמטרים  $a, b$ .

**תשובות סופיות:**

$$\text{1) } \max(5, 25)$$

$$\text{2) } \min(2, -16), \max(-2, 16) \text{ א. עולה: } x > 2, x < -2 \text{ יורדת: } -2 < x < 2$$

$$\text{3) } \max(0, 9), \min(\sqrt{5}, -16), \min(-\sqrt{5}, -16) \text{ א.}$$

$$\text{ב. עולה: } -\sqrt{5} < x < 0, x > \sqrt{5} \text{ יורדת: } 0 < x < \sqrt{5}, x < -\sqrt{5}$$

$$\text{4) } \min(3, 5) \text{ א. ב. עולה: } x > 3 \text{ יורדת: } x < 3$$

$$\text{5) } a = 3$$

$$\text{6) } a = -\frac{2}{3}$$

$$\text{7) } A = -1, B = 3$$

$$\text{8) } A = \frac{1}{3}, B = -\frac{3}{2}, \left(-1, 2\frac{1}{6}\right), \left(4, -18\frac{2}{3}\right)$$

$$\text{9) } b = 6, a = -4$$

$$\text{10) } a = 2, b = -16$$

## חקירת פונקציה פולינומית:

### שאלות:

**11** נתונה הפונקציה  $f(x) = 10x - x^2$ .

חקור את הפונקציה על פי הסעיפים הבאים:

- מהו תחום ההגדרה של הפונקציה?
- מצא את נקודות הקיצון של הפונקציה.
- מצא את תחומי העלייה והירידה של הפונקציה.
- מצא את נקודות החיתוך של הפונקציה עם הצירים.
- שרטט סקיצה של גרף הפונקציה.

**12** נתונה הפונקציה  $f(x) = x^3 - 12x$ .

חקור את הפונקציה על פי הסעיפים הבאים:

- מציאת תחום ההגדרה.
- מציאת נקודות קיצון של הפונקציה.
- כתיבת תחומי העלייה והירידה של הפונקציה.
- מציאת נקודות החיתוך של גרף הפונקציה עם הצירים.
- שרטוט סקיצה של גרף הפונקציה.

**13** נתונה הפונקציה  $f(x) = x^4 - 10x^2 + 9$ .

חקור את הפונקציה על פי הסעיפים הבאים:

- מציאת תחום ההגדרה.
- מציאת נקודות קיצון של הפונקציה.
- כתיבת תחומי העלייה והירידה של הפונקציה.
- מציאת נקודות החיתוך של גרף הפונקציה עם הצירים.
- שרטוט סקיצה של גרף הפונקציה.

**14** נתונה הפונקציה  $f(x) = x^4 - 4x^3 + 32$  חקור את הפונקציה על פי הסעיפים הבאים:

- מציאת תחום ההגדרה.
- מציאת נקודות קיצון של הפונקציה.
- כתיבת תחומי העלייה והירידה של הפונקציה.
- מציאת נקודות החיתוך של גרף הפונקציה עם הצירים.
- שרטוט סקיצה של גרף הפונקציה.

15 נתונה הפונקציה  $f(x) = x^3$  חקור את הפונקציה על פי הסעיפים הבאים:

- מציאת תחום ההגדרה.
- מציאת נקודות קיצון של הפונקציה.
- כתיבת תחומי העלייה והירידה של הפונקציה.
- מציאת נקודות החיתוך של גרף הפונקציה עם הצירים.
- שרטוט סקיצה של גרף הפונקציה.

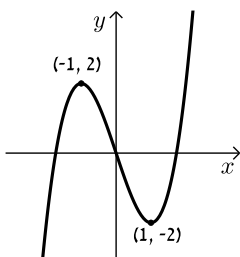
16 נתונה הפונקציה:  $f(x) = 2x^3 - 3ax^2 + 54x - 50$ .

- לאילו ערכים של הפרמטר  $a$  עולה הפונקציה בכל תחום הגדרתה?
- הצב בפונקציה  $a = 6$  וחקור את הפונקציה על פי הסעיפים הבאים: תחום הגדרה, נקודות קיצון, תחומי עלייה וירידה, נקודת חיתוך עם ציר ה- $y$ , סרטוט.

17 נתונה הפונקציה:  $y = -3x^3 + 6x^2 - 4x + d$  (פרמטר  $d$ ).

ידוע כי הפונקציה חותכת את ציר ה- $x$  בנקודה שבה:  $x = 2$ .

- מצא את  $d$ .
- האם יש לפונקציה נקודות קיצון?
- כתוב את תחומי העלייה וירידה של הפונקציה.
- מצא את נקודת החיתוך של הפונקציה עם ציר ה- $y$ .
- שרטט סקיצה של גרף הפונקציה.

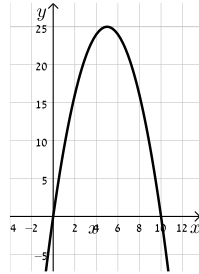


18 לפניך גרף הפונקציה  $f(x) = x^3 - 3x$ :

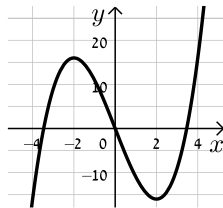
- מהו מספר הפתרונות של המשוואה  $f(x) = 5$ ?
- מהו מספר הפתרונות של המשוואה  $f(x) = 2$ ?
- מהו מספר הפתרונות של המשוואה  $f(x) = 0.5$ ?
- עבור איזה ערך של  $k$  למשוואה  $f(x) = k$  יש בדיוק פתרון אחד?
- עבור איזה ערך של  $k$  למשוואה  $f(x) = k$  יש בדיוק שני פתרונות?
- עבור איזה ערך של  $k$  למשוואה  $f(x) = k$  יש בדיוק שלושה פתרונות?
- האם קיים ערך של  $k$  עבורו למשוואה  $f(x) = k$  אין פתרון?

**תשובות סופיות:**

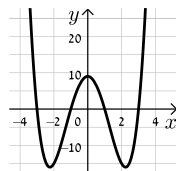
- (11)** א. כל  $x$       ב.  $\max(5,25)$       ג. עלייה:  $x < 5$ , ירידה:  $x > 5$       ד.  $(0,0)$ ,  $(10,0)$ .  
ה. להלן גרף:



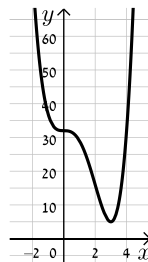
- (12)** א. כל  $x$       ב.  $\min(2,-16)$ ,  $\max(-2,16)$       ג. עלייה:  $x > 2$ ,  $x < -2$ , ירידה:  $-2 < x < 2$       ד.  $(0,0)$ ,  $(\sqrt{12},0)$ ,  $(-\sqrt{12},0)$ .  
ה. להלן גרף:



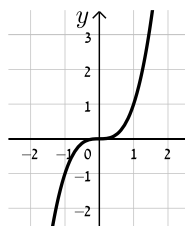
- (13)** א. כל  $x$       ב.  $\max(0,9)$ ,  $\min(\sqrt{5},-16)$ ,  $\min(-\sqrt{5},-16)$       ג. עלייה:  $-\sqrt{5} < x < 0$ ,  $x > \sqrt{5}$ , ירידה:  $x < -\sqrt{5}$ ,  $0 < x < \sqrt{5}$       ד.  $(0,9)$ ,  $(\pm 1,0)$ ,  $(\pm 3,0)$ .  
ה. להלן גרף:



- (14)** א. כל  $x$       ב.  $\min(3,5)$       ג. תחומי עלייה:  $x > 3$ , תחומי ירידה:  $x < 3$       ד.  $(0,32)$ .  
ה. להלן גרף:

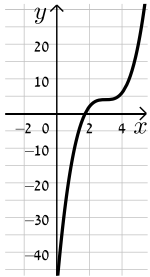


- (15)** א. כל  $x$       ב. אין.      ג. עולה לכל  $x$       ד.  $(0,0)$ .  
ה. להלן גרף:



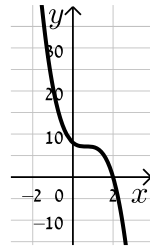
16) א.  $-6 < a < 6$  ב. תחום הגדרה: כל  $x$ , נקודות קיצון: אין, תחומי עלייה: כל  $x$ ,

תחומי ירידה: אין, נקודת חיתוך עם הצירים:  $(0, -50)$ , להלן גרף:



17) א.  $d = 8$  ב. לא ג. יורדת בתחום  $x \neq \frac{2}{3}$

ד.  $(0, 8)$  ה. להלן גרף:



18) א. 1 ב. 2 ג. 3 ד.  $k > 2, k < -2$

ה.  $k = \pm 2$  ו.  $-2 < k < 2$  ז. לא

## פונקציה זוגית ואי-זוגית:

### סיכום כללי:

#### הגדרות:

- פונקציה  $f(x)$  תיקרא זוגית אם לכל  $x$  בתחום הגדרתה מתקיים:  $f(x) = f(-x)$ .
- פונקציה  $f(x)$  תיקרא אי-זוגית אם לכל  $x$  בתחום הגדרתה מתקיים:  $f(-x) = -f(x)$ .

#### שאלות:

(1) קבע אלו מהפונקציות הבאות הן זוגיות/אי-זוגיות לא זו ולא זו:

א.  $f(x) = 3x - 5$

ב.  $f(x) = 3x^2$

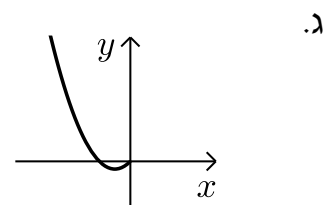
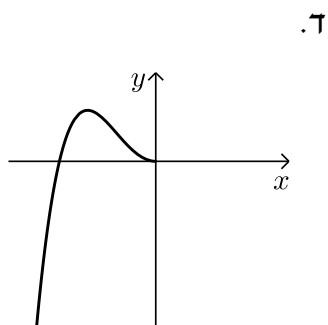
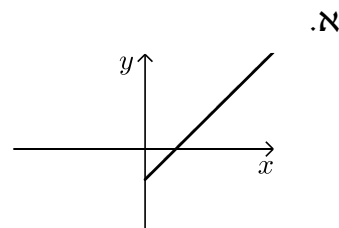
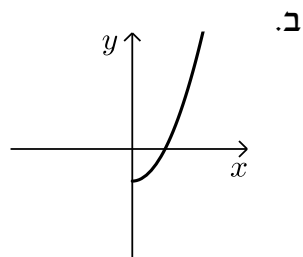
ג.  $f(x) = 2x^3$

ד.  $f(x) = x^3 - 2x^2$

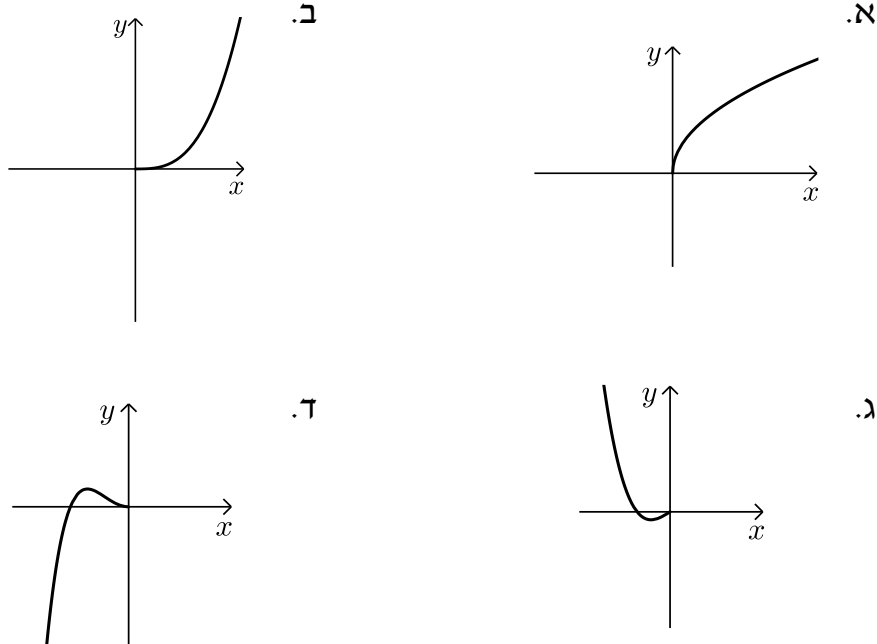
ה.  $f(x) = 4x^4 - 3x^2 + 1$

ו.  $f(x) = 4x^5 - 3x^3 - 1$

(2) הפונקציות המסורטטות להלן מוגדרות לכל  $x$ . השלם את ציור הגרף של הפונקציה כך שתקבל פונקציה זוגית:



3) הפונקציות המסורטטות להלן מוגדרות לכל  $x$ . השלם את ציור הגרף של הפונקציה כך שתקבל פונקציה אי-זוגית:



4) נתונה הפונקציה הבאה:  $f(x) = x^4 - 4x^2$  בתחום:  $[0:3]$ .

א. חקור את הפונקציה בתחום הנ"ל לפי הסעיפים הבאים:

- i. תחום הגדרה.
- ii. מציאת נקודות חיתוך עם הצירים.
- iii. מציאת נקודות קיצון וסיווגן.
- iv. כתיבת תחומי עלייה וירידה.
- v. סרטוט סקיצה של גרף הפונקציה.

ב. הוכח כי הפונקציה  $f(x)$  היא פונקציה זוגית.

ג. התבסס על ממצאריך מהסעיפים הקודמים וסרטט את הפונקציה בתחום:  $[-3:3]$  (הוסף את סרטוט גרף הפונקציה בתחום  $[-3:0]$  לגרף שסרטטת בסעיף הקודם).

5) נתונה הפונקציה הבאה:  $f(x) = x^6 - 3x^2 + 3$ .

- חקור את הפונקציה בתחום:  $[0:4]$  לפי הסעיפים הבאים: תחום הגדרה, מציאת חיתוך עם ציר ה- $y$ , מציאת נקודות קיצון וסיווגן, כתיבת תחומי עלייה וירידה, סרטוט סקיצה בתחום הנ"ל.
- האם הפונקציה היא זוגית? אי-זוגית? לא זו ולא זו? נמק באמצעות חישוב מתאים.
- הסתמך על ממציאך מהסעיפים הקודמים והוסף לסקיצה ששרטטת בסעיף א', את עקום הפונקציה בתחום  $[-4:0]$ .
- הוכח כי הפונקציה חיובית לכל  $x$  בתחום הגדרתה.

6) לפניך הפונקציה:  $f(x) = -2x^6 + 3x^4 + a$ , פרמטר  $a$ .

ידוע כי לפונקציה ערך מירבי של 1.

- מצא את  $a$  וכתוב את הפונקציה  $f(x)$ .
- חקור את הפונקציה בתחום:  $[-2:0]$  לפי הסעיפים הבאים: כתיבת תחום הגדרה, מציאת נקודות חיתוך עם הצירים, מציאת נקודות קיצון וסיווגן, כתיבת תחומי עלייה וירידה, סרטוט סקיצה.
- האם הפונקציה היא זוגית? אי-זוגית? לא זה ולא זה? נמק באמצעות חישוב מתאים.
- הסתמך על ממציאך מהסעיפים הקודמים ושרטט את גרף הפונקציה בתחום:  $[-2:2]$ .

7) נתונה הפונקציה הבאה:  $f(x) = 3x^3 - 9x$ .

- חקור את הפונקציה בתחום:  $[0:5]$  לפי הסעיפים הבאים: כתיבת תחום הגדרה, מציאת נקודות חיתוך עם הצירים, מציאת נקודות קיצון וסיווגן, כתיבת תחומי עלייה וירידה, סרטוט סקיצה.
- הוכח כי הפונקציה היא אי-זוגית.
- התבסס על ממציאך מהסעיפים הקודמים ושרטט את הפונקציה בתחום:  $[-5:5]$  (הוסף את סרטוט גרף הפונקציה בתחום  $[-5:0]$  לגרף ששרטטת בסעיף הקודם).

- 8) לפניך הפונקציה הבאה:  $f(x) = 5x^3 - 3x^5 + b$ , פרמטר  $b$ . ידוע כי הישר  $y = 2x$  עובר דרך כל הנקודות על גרף הפונקציה שמקיימות:  $f'(x) = 0$ .
- מצא את  $b$  וכתוב את הפונקציה  $f(x)$ .
  - חקור את הפונקציה בתחום:  $[0:2]$  לפי הסעיפים הבאים:
    - תחום הגדרה.
    - מציאת נקודות חיתוך עם הצירים.
    - מציאת נקודות קיצון וסיווגן.
    - כתיבת תחומי עלייה וירידה.
    - סרטוט סקיצה של גרף הפונקציה.
  - בדוק האם הפונקציה היא זוגית/אי-זוגית או לא זו ולא זו. נמק את קביעתך באמצעות חישוב מתאים.
  - הסתמך על ממציאך מהסעיפים הקודמים והוסף לסקיצה של גרף הפונקציה את הגרף בתחום  $[-2:0]$ .

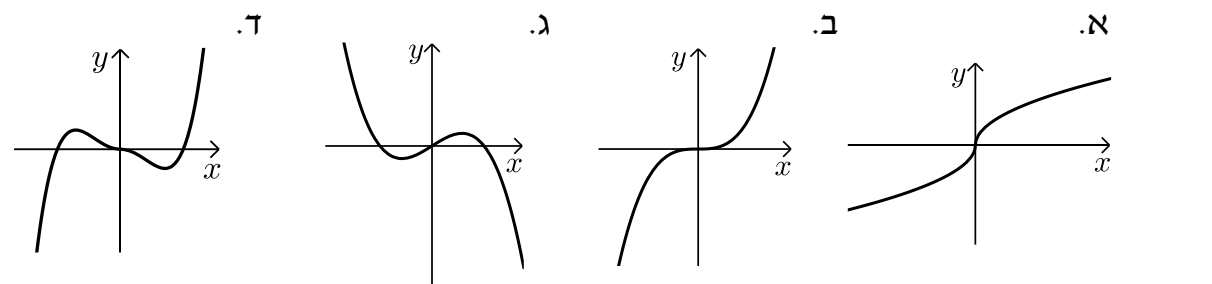
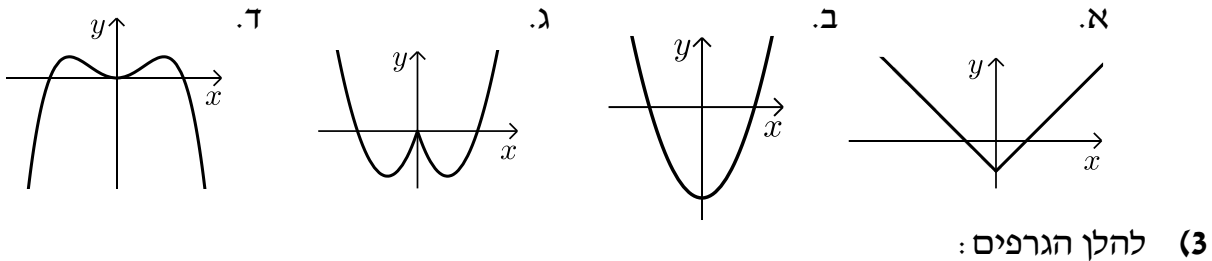
9) נתונה הפונקציה:  $f(x) = \frac{x^7 - x}{3}$

- חקור את הפונקציה בתחום:  $[-4:0]$  לפי הסעיפים הבאים:
  - תחום הגדרה.
  - מציאת נקודות חיתוך עם הצירים.
  - מציאת נקודות קיצון וסיווגן (בתשובתך השאר עד 2 ספרות לאחר הנקודה העשרונית).
  - כתיבת תחומי עלייה וירידה.
  - סרטוט סקיצה של גרף הפונקציה.
- האם הפונקציה היא זוגית? אי-זוגית? או לא זו ולא זו? נמק ע"י חישוב מתאים.
- הסתמך על ממציאך מהסעיפים הקודמים והוסף לסקיצה שעשית את גרף הפונקציה בתחום  $[0:4]$ .

**תשובות סופיות:**

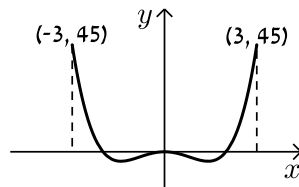
- (1) זוגית: ב', ה'.  
(2) להלן הגרפים:

אי-זוגית: ג', לא זו ולא זו: א', ד', ו'.

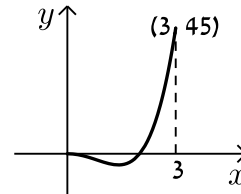


- (4) א. i.  $0 \leq x \leq 3$  ii.  $(0,0), (2,0)$  iii.  $\max(3,45)$  קצה,  $\min(\sqrt{2}, -4)$   
 iv. עולה:  $\sqrt{2} < x < 3$ , יורדת:  $0 < x < \sqrt{2}$ . ב. סעיף הוכחה.

**סרטוט עבור סעיף ג:**

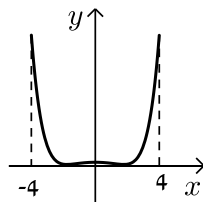


**סרטוט עבור חלק v:**

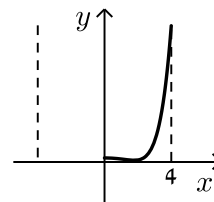


- (5) א. תחום הגדרה:  $0 \leq x \leq 4$ , חיתוך עם ציר ה- $y$ :  $(0,3)$ , נקודות קיצון:  $\max(4,4051)$  קצה,  $\min(1,1)$ ,  $\max(0,3)$  קצה, עולה:  $1 < x < 4$ , יורדת:  $0 < x < 1$ . ב. זוגית. ד. הוכחה עפ"י הסרטוט.


**סרטוט עבור סעיף ג:**



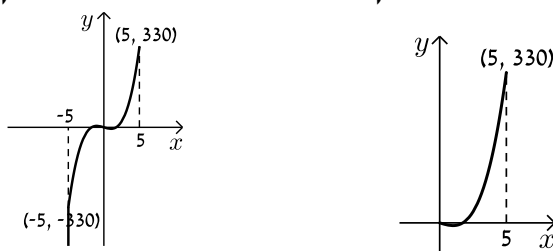
**סרטוט עבור סעיף א:**



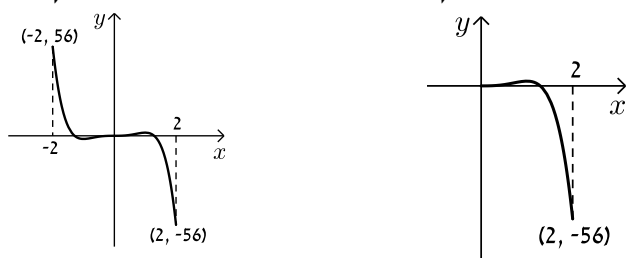
6. א.  $a=0$  ב. תחום הגדרה:  $-2 \leq x \leq 0$ , חיתוך עם הצירים:  
 נקודות קיצון:  $(0,0)$ ,  $(-1.225,0)$ ,  $\min(-2,-80)$ ,  $\max(-1,1)$ ,  $\min(0,0)$  קצה,  
 עולה:  $-2 < x < -1$ , יורדת:  $-1 < x < 0$ . ג. זוגית.  
**סרטוט עבור סעיף א:** **סרטוט עבור סעיף ד:**



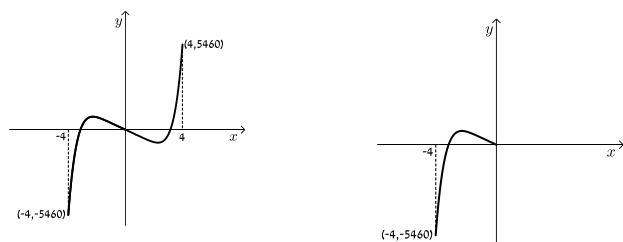
7. א. תחום הגדרה:  $0 \leq x \leq 5$ , חיתוך עם הצירים:  $(0,0)$ ,  $(\sqrt{3},0)$   
 נקודות קיצון:  $\max(5,330)$  קצה,  $\min(1,-6)$ ,  $\max(0,0)$  קצה,  
 עולה:  $1 < x < 5$ , יורדת:  $0 < x < 1$ . ב. אי-זוגית.  
**סרטוט עבור סעיף א:** **סרטוט עבור סעיף ג:**



8. א.  $b=0$  ב. i  $0 \leq x \leq 2$  ii  $(0,0)$ ,  $(1.29,0)$  iii  $\min(2,-56)$  קצה,  
 iv. עולה:  $0 < x < 1$ , יורדת:  $1 < x < 2$ . ג. אי-זוגית.  
**סרטוט עבור סעיף ד:** **סרטוט עבור חלק v:**



9. א. i  $-4 \leq x \leq 0$  ii  $(-1,0)$ ,  $(0,0)$  iii  $\min(0,0)$  קצה,  $\max(-0.723,0.207)$ ,  
 iv. עולה:  $-4 < x < -0.723$ . ג. אי-זוגית. **סרטוט עבור סעיף ד:** **סרטוט עבור חלק v:**



# קורס מתמטיקה להנדסאי טכנולוגיות מים

פרק 24 - חשבון דיפרנציאלי - חקירת פונקצית מנה ושורש

תוכן העניינים

378	1. מציאת תחום הגדרה
380	2. מציאת נקודות קיצון ותחומי עלייה וירידה
381	3. מציאת אסימפטוטות המקבילות לצירים
386	4. חקירת פונקצית מנה
395	5. חקירת פונקצית שורש
403	6. תחומי קעירות ונקודות פיתול
409	7. חקירת פונקציה עם פרמטר

## מציאת תחום הגדרה:

### סיכום כללי:

- כל פולינום מוגדר לכל  $x$ .
- בפונקציה עם מכנה, אסור שיתקבל אפס במכנה.
- בפונקציה עם שורש זוגי, אסור שיתקבל מספר שלילי בתוך השורש.

### שאלות:

1) מצא את תחום ההגדרה של הפונקציות הבאות:

א. $f(x) = x^2 + \frac{1}{2}x$	ב. $f(x) = 4x^3 - x^2 + \frac{x}{2} + 1$
ג. $f(x) = x^3 - x^2 - 4x + 1$	ד. $f(x) = \frac{2x}{x-3}$
ה. $f(x) = \frac{1}{x^2 - 4}$	ו. $f(x) = \frac{5x^3 + 4x}{x^2 - 1}$
ז. $f(x) = \frac{x^2}{x^2 - x - 2}$	ח. $f(x) = \frac{x^2 + 1}{x^2 - 2x - 8}$
ט. $f(x) = \frac{6}{x^2 + 1}$	י. $f(x) = \frac{4x + 1}{x^2 + 1}$
יא. $f(x) = \frac{1}{x^3 - x}$	יב. $f(x) = \frac{x^2}{x^3 - 4x}$

2) מצא את תחום ההגדרה של הפונקציות הבאות:

א. $f(x) = \sqrt{x}$	ב. $f(x) = 2\sqrt{x-3}$
ג. $f(x) = \sqrt{x-4}$	ד. $f(x) = 3x\sqrt{1-2x}$
ה. $f(x) = \sqrt{x^2 + 3x - 10}$	ו. $f(x) = \sqrt{x^2 + x - 2}$
ז. $f(x) = \frac{5x}{\sqrt{x+4}}$	ח. $f(x) = \frac{\sqrt{x^2 + 5x + 6}}{x-1}$
ט. $f(x) = \sqrt{\frac{2x^2 + x - 3}{x^2 + 5x + 9}}$	י. $f(x) = \frac{x-2}{\sqrt{x^3 - 9x}}$
יא. $f(x) = \frac{1}{x + \sqrt{x+6}}$	יב. $f(x) = \frac{x+1}{x - \sqrt{2-x}}$
יג. $f(x) = \frac{1}{\sqrt{1- x }}$	יד. $f(x) = \sqrt{\sqrt{x+2} - 3}$

## תשובות סופיות:

- (1) א. כל  $x$     ב. כל  $x$     ג. כל  $x$     ד.  $x \neq 3$     ה.  $x \neq \pm 2$     ו.  $x \neq \pm 1$   
 ז.  $x \neq -1, 2$     ח.  $x \neq 4, -2$     ט. כל  $x$     י. כל  $x$     יא.  $x \neq \pm 1, 0$     יב.  $x \neq \pm 2, 0$
- (2) א.  $x \geq 0$     ב.  $x \geq 3$     ג.  $x \geq 4$     ד.  $x \leq \frac{1}{2}$     ה.  $x \leq -5, x \geq 2$
- ו.  $x \leq -2, x \geq 1$     ז.  $x > -4$     ח.  $x \leq -3, -2 \leq x < 1, x > 1$     ט.  $x \leq -1.5, x \geq 1$   
 י.  $-3 < x < 0, x > 3$     יא.  $-6 \leq x < -2, x > -2$     יב.  $x < 1, 1 < x \leq 2$   
 יג.  $-1 < x < 1$     יד.  $x \geq 7$

## מציאת נקודות קיצון ותחומי עלייה וירידה:

שאלות:

(3) נתונה הפונקציה:  $f(x) = \frac{6x}{x^2 - 10x + 9}$ .

- א. מהן נקודות הקיצון של הפונקציה?  
 ב. מהם תחומי העלייה והירידה של הפונקציה?

תשובות סופיות:

(3) א.  $\min\left(-3, -\frac{3}{8}\right), \max\left(3, -1\frac{1}{2}\right)$ .

ב. עולה:  $-3 < x < 3$ , יורדת:  $x < -3, 3 < x \neq 9$ ,  $x \neq 1$ .

## מציאת אסימפטוטות המקבילות לצירים:

### סיכום כללי:

#### אסימפטוטה אנכית:

הגדרה: הישר:  $x = k$  הוא אסימפטוטה אנכית של פונקציה מהצורה:  $y = \frac{f(x)}{g(x)}$

אם הוא מקיים:  $g(k) = 0$  וגם:  $f(k) \neq 0$ . בצורה מתמטית: אם:  $\lim_{x \rightarrow k^+} \frac{f(x)}{g(x)} = \pm\infty$

או:  $\lim_{x \rightarrow k^-} \frac{f(x)}{g(x)} = \pm\infty$  או שניהם אז הישר:  $x = k$  הוא אסימפטוטה אנכית לפונקציה  $y = \frac{f(x)}{g(x)}$ .

### הסבר כללי:

בעבור ערכי  $x$  שמאפסים את המכנה, אבל לא את המונה יש אסימפטוטה אנכית. כאשר ערך  $x$  מאפס את המכנה וגם את המונה יש לפרק את המונה והמכנה (על ידי נוסחאות כפל מקוצר או טרינום למשל) ולצמצם. אם אחרי הצמצום אותו ערך של  $x$  עדיין מאפס את המכנה תתקבל אסימפטוטה אנכית, אך אם ערך  $x$  זה לא מאפס את המכנה אחרי שצומצם אין אסימפטוטה אנכית אלא נקודת אי הגדרה.

#### אסימפטוטה אופקית:

הגדרה: ישר מהצורה:  $y = n$  הוא אסימפטוטה אופקית לפונקציה מהצורה:  $y = \frac{f(x)}{g(x)}$

אם מתקיים:  $\lim_{x \rightarrow \infty^+} \frac{f(x)}{g(x)} = n$  או:  $\lim_{x \rightarrow \infty^-} \frac{f(x)}{g(x)} = n$  או שניהם.

אופן החישוב הכללי:

נתונה הפונקציה  $f(x) = \frac{ax^m + \dots}{bx^n + \dots}$  (יש בפונקציה קו שבר אחד!)

- אם  $m > n$ , לפונקציה אין אסימפטוטה אופקית.
- אם  $m = n$ , לפונקציה יש אסימפטוטה אופקית שמשוואתה  $y = \frac{a}{b}$ .
- אם  $m < n$ , לפונקציה יש אסימפטוטה אופקית שמשוואתה  $y = 0$ .

### חוקי גבולות לאינסוף:

במקרים רבים נרצה לדעת האם פונקציה מסוימת מתכנסת לערך כלשהו כאשר  $x$  שואף לערכים ההולכים וגדלים (לאינסוף, או למינוס אינסוף). עבור ערכי  $x$  שהולכים וגדלים (או קטנים) נרשום:  $x = \infty$  או  $x = -\infty$  בהתאמה.

ישנם 4 מצבים בהם ערך הפונקציה בשאיפת  $x$  לאחד הקצוות ניתן לחישוב ישיר:

- הגבול:  $\lim_{x \rightarrow \infty} \frac{1}{x} = \frac{1}{\infty} = 0$

- הגבול:  $\lim_{x \rightarrow 0} \frac{1}{x}$  ניתן לפיצול לשני מקרים:

- אם:  $x \rightarrow 0^+$  (מתקרב ל-0 מהכיוון החיובי) אז:  $\lim_{x \rightarrow 0^+} \frac{1}{x} = \frac{1}{0^+} = +\infty$

- אם:  $x \rightarrow 0^-$  (מתקרב ל-0 מהכיוון השלילי) אז:  $\lim_{x \rightarrow 0^-} \frac{1}{x} = \frac{1}{0^-} = -\infty$

- הגבול מהצורה  $\infty \cdot \infty$  (מכפלת שני ביטויים של  $x$  אשר כל אחד מהם שואף לאינסוף בפני עצמו) מקיים:  $\infty \cdot \infty = \infty$

- הגבול מהצורה  $\infty + \infty$  (סכום שני ביטויים של  $x$  אשר כל אחד מהם שואף לאינסוף בפני עצמו) מקיים:  $\infty + \infty = \infty$

ישנם 3 מקרים בהם לא ניתן לדעת מהו ערך הפונקציה בלקיחת הגבול בצורה ישירה והם:

- הגבול מהצורה:  $\frac{\infty}{\infty}$  (מנת שני ביטויים שהולכים וגדלים עם שאיפת  $x$ ).

- הגבול מהצורה:  $\frac{0}{0}$  (מנת שני ביטויים שהולכים וקטנים עם שאיפת  $x$ ).

- הגבול מהצורה:  $\infty - \infty$  (הפרש של שני ביטויים שהולכים וגדלים עם שאיפת  $x$ ). במקרים אלו נעזר בפישוטים שהוצגו לעיל על מנת למצוא את ערך הגבול עצמו.

## שאלות:

(4) מצא את האסימפטוטות המקבילות לצירים של הפונקציה:  $f(x) = \frac{1}{x-2} + 3$

(5) מצא את האסימפטוטות המקבילות לצירים של הפונקציה:  $f(x) = \frac{5x^2+1}{x^2-9}$

(6) מצא את האסימפטוטות המקבילות לצירים של הפונקציה:  $f(x) = \frac{2x^2-5x+2}{1+3x^2}$

(7) מצא את האסימפטוטות המקבילות לצירים של הפונקציה:  $f(x) = \frac{3x}{x^2-2x-15}$

(8) מצא את האסימפטוטות המקבילות לצירים של הפונקציה:  $f(x) = \frac{6x^3-5x+1}{1+2x^2}$

(9) מצא את האסימפטוטות המקבילות לצירים של הפונקציה:  $f(x) = \frac{ax+b}{x-b}$

(10) מצא את האסימפטוטות המקבילות לצירים של הפונקציה:  $f(x) = \frac{x^2-4}{x^2-3x+2}$   
 ואת נקודת אי הרציפות שלה.

(11) מצא את האסימפטוטות המקבילות לצירים של הפונקציה:  $f(x) = \frac{x^2}{2x^2-4x}$   
 ואת נקודת אי הרציפות שלה.

(12) מצא את האסימפטוטות המקבילות לצירים של הפונקציה:  $f(x) = \frac{\sqrt{x-1}}{x^2-4}$

(13) מצא את האסימפטוטות המקבילות לצירים של הפונקציה:  $f(x) = \frac{x}{\sqrt{4-x}}$

14) מצא את האסימפטוטות המקבילות לצירים של הפונקציה:  $f(x) = \frac{\sqrt{x}}{1-\sqrt{x}}$

15) מצא את האסימפטוטות המקבילות לצירים של הפונקציה:  $f(x) = \frac{2x}{x-\sqrt{x}}$

16) מצא את האסימפטוטות המקבילות לצירים של הפונקציה:  $f(x) = \frac{3x}{\sqrt{x^2+5}}$

17) מצא את האסימפטוטות המקבילות לצירים של הפונקציה:  $f(x) = \frac{5x}{\sqrt{x^2-16}}$

18) נתונה הפונקציה:  $f(x) = \frac{4x^2+1}{ax^2-x+b}$

האסימפטוטה האופקית של הפונקציה ואחת האסימפטוטות האנכיות של הפונקציה

נפגשות בנקודה  $(-1, 2)$ .

מצא את ערכי הפרמטרים  $a$  ו- $b$ .

19) נתונה הפונקציה:  $f(x) = \frac{ax+8}{x+b\sqrt{x}}$

הפונקציה חותכת את האסימפטוטה האופקית שלה בנקודה  $(16, 2)$ .

מצא את ערכי הפרמטרים  $a$  ו- $b$ .

**תשובות סופיות:**

(4)  $x = 2, y = 3$

(5)  $x = \pm 3, y = 5$

(6)  $y = \frac{2}{3}$

(7)  $x = -3, x = 5, y = 0$

(8) אין.

(9)  $x = b, y = a$

(10) נקודת אי-הגדרה:  $(2, 4)$ ,  $x = 1, y = 1$

(11) נקודת אי-הגדרה:  $(0, 0)$ ,  $x = 2, y = \frac{1}{2}$

(12)  $x = 2, y = 0$

(13)  $x = 4$

(14)  $x = 1, y = -1$

(15)  $x = 1, y = 2$

(16)  $y = \lim_{x \rightarrow \infty} (f(x)) = 3, y = \lim_{x \rightarrow -\infty} (f(x)) = -3$

(17)  $x = 4, x = -4, y = 5, y = -5$

(18)  $b = -3, a = 2$

(19)  $b = 1, a = 2$

## חקירת פונקצית מנה:

### שאלות:

(20) נתונה הפונקציה:  $f(x) = \frac{6x^2 - 10x + 6}{3x^2 - 10x + 3}$ . חקור את הפונקציה לפי הסעיפים הבאים:

- א. מציאת תחום ההגדרה.
- ב. מציאת נקודות הקיצון של הפונקציה.
- ג. כתיבת תחומי העלייה והירידה של הפונקציה.
- ד. מציאת נקודות החיתוך של גרף הפונקציה עם הצירים.
- ה. מציאת אסימפטוטות המקבילות לצירים.
- ו. שרטוט סקיצה של גרף הפונקציה.

(21) נתונה הפונקציה:  $f(x) = x + \frac{1}{x}$ . חקור את הפונקציה לפי הסעיפים הבאים:

- א. מציאת תחום ההגדרה.
- ב. מציאת נקודות הקיצון של הפונקציה.
- ג. כתיבת תחומי העלייה והירידה של הפונקציה.
- ד. מציאת נקודות החיתוך של גרף הפונקציה עם הצירים.
- ה. שרטוט סקיצה של גרף הפונקציה.

(22) נתונה הפונקציה:  $f(x) = \frac{2x+1}{x-3}$ . חקור את הפונקציה לפי הסעיפים הבאים:

- א. מציאת תחום ההגדרה.
- ב. מציאת נקודות הקיצון של הפונקציה.
- ג. כתיבת תחומי העלייה והירידה של הפונקציה.
- ד. מציאת נקודות החיתוך של גרף הפונקציה עם הצירים.
- ה. מציאת אסימפטוטות המקבילות לצירים.
- ו. שרטוט סקיצה של גרף הפונקציה.

**(23)** נתונה הפונקציה:  $f(x) = \frac{6x}{x^2 - 5x + 4}$ . חקור את הפונקציה לפי הסעיפים הבאים:

- א. מציאת תחום ההגדרה.
- ב. מציאת נקודות הקיצון של הפונקציה.
- ג. כתיבת תחומי העלייה והירידה של הפונקציה.
- ד. מציאת נקודות החיתוך של גרף הפונקציה עם הצירים.
- ה. שרטוט סקיצה של גרף הפונקציה.

**(24)** נתונה הפונקציה:  $f(x) = \frac{x^2 - 3x}{x^2 + 3}$ . חקור את הפונקציה לפי הסעיפים הבאים:

- א. מציאת תחום ההגדרה.
- ב. מציאת נקודות הקיצון של הפונקציה.
- ג. כתיבת תחומי העלייה והירידה של הפונקציה.
- ד. מציאת נקודות החיתוך של גרף הפונקציה עם הצירים.
- ה. שרטוט סקיצה של גרף הפונקציה.

**(25)** נתונה הפונקציה הבאה:  $y = \frac{2x^2 - 5x + 2}{4x}$ . חקור לפי הסעיפים הבאים:

- א. תחום הגדרה.
- ב. נקודות קיצון.
- ג. קביעת סוג הקיצון ותחומי עלייה וירידה.
- ד. חיתוך עם הצירים.
- ה. מציאת אסימפטוטה אנכית.
- ו. שרטוט סקיצה.

**(26)** נתונה הפונקציה:  $f(x) = \frac{x^2 - 5x + 6}{x - 3}$ . חקור את הפונקציה לפי הסעיפים הבאים:

- א. מציאת תחום הגדרה.
- ב. מציאת נקודות קיצון של הפונקציה.
- ג. כתיבת תחומי העלייה והירידה של הפונקציה.
- ד. מציאת נקודות החיתוך של גרף הפונקציה עם הצירים.
- ה. מציאת אסימפטוטות המקבילות לצירים.
- ו. שרטוט סקיצה של גרף הפונקציה.

**(27)** נתונה הפונקציה:  $f(x) = \frac{x^2 - 3x + 2}{x^2 - 1}$ . חקור את הפונקציה לפי הסעיפים הבאים:

- מציאת תחום הגדרה.
- מציאת נקודות קיצון של הפונקציה.
- כתיבת תחומי העלייה והירידה של הפונקציה.
- מציאת נקודות החיתוך של גרף הפונקציה עם הצירים.
- מציאת אסימפטוטות המקבילות לצירים.
- סרטוט סקיצה של גרף הפונקציה.

**(28)** לגרף הפונקציה:  $f(x) = \frac{ax + 4}{x^2}$  יש נקודת קיצון שבה  $x = -8$ .

- מצא את  $a$  וכתוב את הפונקציה.
- כתוב את תחומי העלייה והירידה של הפונקציה.
- מצא את נקודות החיתוך של הפונקציה עם הצירים.
- מצא את האסימפטוטות המקבילות לצירים.
- סרטוט סקיצה של גרף הפונקציה.

**(29)** נתונה הפונקציה:  $f(x) = \frac{3x^2}{2x^2 - 8}$ .

- מהו תחום הגדרה של הפונקציה?
- מצא את נקודות הקיצון של הפונקציה.
- קבע את סוג הקיצון ותחומי העלייה והירידה של הפונקציה.
- מצא את נקודות החיתוך עם הצירים של הפונקציה.
- מצא את האסימפטוטות המקבילות לצירים של הפונקציה.
- סרטוט סקיצה של גרף הפונקציה.

**(30)** נתונה הפונקציה:  $y = \frac{a^2x - 4}{2x^2 - 1}$ ,  $(a$  קבוע).

- ידוע כי שיפוע המשיק לגרף הפונקציה בנקודה שבה:  $x = 1$  הוא:  $m = 4$ .
- מצא את כל הערכים האפשריים עבור  $a$ .
  - מצא את נקודות החיתוך של גרף הפונקציה עם הצירים.
  - מצא את נקודת החיתוך בין המשיק הנתון ומשיק העובר דרך נקודת החיתוך של גרף הפונקציה עם ציר ה- $y$ .

**(31)** נתונה הפונקציה הבאה:  $f(x) = 1.5x - \frac{5x+1}{x+5}$ . חקור לפי הסעיפים הבאים:

- א. תחום הגדרה.
- ב. נקודות קיצון וסוגן.
- ג. תחומי עלייה וירידה.
- ד. חיתוך עם הצירים.
- ה. מציאת אסימפטוטות המקבילות לצירים.
- ו. סרטוט סקיצה.

**(32)** נתונה הפונקציה:  $f(x) = \frac{x-a}{x-1}$ ,  $(a \neq 1)$ .

- א. מצא את תחום ההגדרה של הפונקציה.
- ב. מצא את האסימפטוטות של הפונקציה המקבילות לצירים.
- ג. הבע באמצעות  $a$  את השיעורים של נקודת החיתוך של גרף הפונקציה עם ציר ה- $x$  ועם ציר ה- $y$ .
- ד. ענה על הסעיפים הבאים:
  - i. מצא עבור אילו ערכים של  $a$  הפונקציה  $f(x)$  עולה לכל  $x$  בתחום ההגדרה.
  - ii. ישר המשיק לגרף הפונקציה  $f(x)$  בנקודה שבה  $x=a$  מקביל לישר המשיק לגרף הפונקציה בנקודה שבה:  $x=2$ . מצא את הערך של  $a$  אם נתון כי הפונקציה עולה לכל  $x$ .

**(33)** נתונה הפונקציה:  $f(x) = \frac{x^2+ax+6}{x-2}$ ,  $(a$  פרמטר).

- ידוע שאחת מנקודות הקיצון של הפונקציה נמצאת על ציר ה- $y$ .
- א. מצא את הערך של  $a$ .
  - ב. הצב את הערך של  $a$  שמצאת בסעיף א' ומצא:
    - i. את תחום ההגדרה של הפונקציה.
    - ii. את נקודות החיתוך של גרף הפונקציה עם הצירים (אם יש כאלה).
    - iii. את השיעורים של נקודות הקיצון של הפונקציה, וקבע את סוגן.
    - iv. את האסימפטוטות של הפונקציה המקבילות לצירים (אם יש כאלה).
  - ג. עבור אלו ערכי  $x$  הפונקציה שלילית?
  - ד. נתון הישר:  $y=k$ . עבור אלו ערכי  $k$  אין נקודות משותפות לישר ולגרף הפונקציה? נמק.

34 נתונה הפונקציה:  $y = \frac{x+3}{x-2} + A$ , (A פרמטר). גרף הפונקציה עובר בנקודה (A, 3A).

- א. מצא את ערך הפרמטר A.
  - ב. כתוב את תחום ההגדרה של הפונקציה.
  - ג. הוכח כי גרף הפונקציה יורד לכל x.
  - ד. מצא את נקודת החיתוך של גרף הפונקציה עם ציר ה-y.
  - ה. סרטט סקיצה של גרף הפונקציה.
  - ו. נתון הישר:  $y = k$ .
- האם קיים ערך של k עבורו הישר חותך את גרף הפונקציה בשתי נקודות שונות? נמק.

35 נתונה הפונקציה:  $f(x) = \frac{ax^2 - 20x + 28}{x^2 + 2a}$ .

- ידוע כי גרף הפונקציה חותך את האסימפטוטה האופקית שלו בנקודה (3, 0.5).
- א. מצא את ערך הפרמטר a וכתוב את הפונקציה ואת תחום הגדרתה.
  - ב. מצא את נקודות הקיצון של הפונקציה וקבע את סוגן.
  - ג. כתוב את תחומי העלייה והירידה של הפונקציה.
  - ד. מצא את נקודות החיתוך של גרף הפונקציה עם הצירים.
  - ה. סרטט סקיצה של גרף הפונקציה.
  - ו. העזר בגרף הפונקציה וקבע עבור אלו ערכים של k הישר:  $y = k$  יחתוך את גרף הפונקציה בנקודה אחת בלבד.

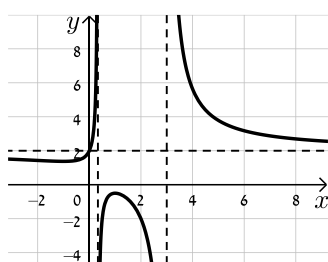
36 ענה על הסעיפים הבאים:

- א. הוכח כי לגרף הפונקציה:  $f(x) = \frac{9-x^2}{x^2-k}$  יש נקודת קיצון שנמצאת על ציר ה-y.
- ב. הוכח כי הפונקציה  $f(x)$  מוגדרת לכל x אם ידוע כי שיעור ה-y של נקודת הקיצון הוא 3.
- ג. מצא את נקודות החיתוך של גרף הפונקציה עם ציר ה-x.
- ד. מצא את האסימפטוטה האופקית של הפונקציה.
- ה. סרטט סקיצה של גרף הפונקציה וקבע בכמה נקודות יחתוך אותו הישר  $y = -1$ . נמק את תשובתך.

**תשובות סופיות:**

20 א.  $x \neq 3, x \neq \frac{1}{3}$  ב.  $\min\left(-1, 1\frac{3}{8}\right), \max\left(1, -\frac{1}{2}\right)$

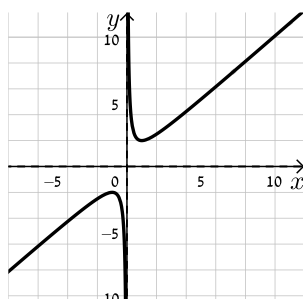
ג. תחומי עלייה:  $-1 < x < 1$  וגם  $x \neq \frac{1}{3}$ , תחומי ירידה:  $1 < x \neq 3$  או  $x < -1$ .



ד.  $(0, 2)$  ה.  $x = 3, x = \frac{1}{3}, y = 2$  ו. להלן סקיצה:

21 א.  $x \neq 0$  ב.  $\min(1, 2), \max(-1, -2)$

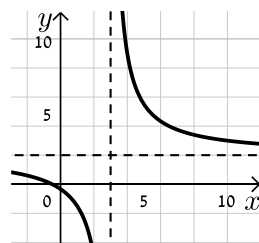
ג. עולה:  $x > 1$  או  $x < -1$ , יורדת:  $-1 < x < 1$ ,  $x \neq 0$  ד. אין



ה. להלן סקיצה:

22 א.  $x \neq 3$  ב. אין ג. הפונקציה יורדת בכל ת.ה.

ד.  $\left(-\frac{1}{2}, 0\right), \left(0, -\frac{1}{3}\right)$  ה.  $y = 2, x = 3$

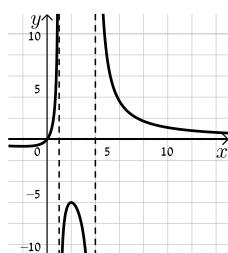


ו. להלן סקיצה:

23 א.  $x \neq 1, x \neq 4$  ב.  $\min\left(-2, -\frac{2}{3}\right), \max(2, -6)$

ג. תחומי עלייה:  $-2 < x < 2$ ,  $x \neq 1$ , תחומי ירידה:  $x < -2$  או  $x > 2$ ,  $x \neq 4$

ד.  $(0, 0)$  (אסימפטוטות:  $y = 0, x = 1, x = 4$ ).

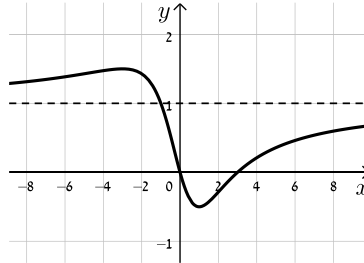


ה. להלן סקיצה:

24) א. כל  $x$       ב.  $\min\left(1, -\frac{1}{2}\right), \max\left(-3, 1\frac{1}{2}\right)$

ד.  $(0,0), (3,0)$  (אסימפטוטה:  $y=1$ ).

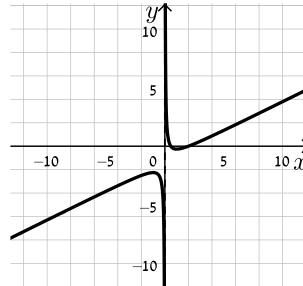
ג. עולה:  $x > 1$  או  $x < -3$ , יורדת:  $-3 < x < 1$   
ה. להלן סקיצה:



25) א.  $x \neq 0$       ב.  $\min(1, -0.25), \max(-1, -2.25)$

ג. עולה:  $x > 1, x < -1$ , יורדת:  $-1 < x < 1$ ,  $x \neq 0$       ד.  $(0.5,0), (2,0)$       ה.  $x=0$

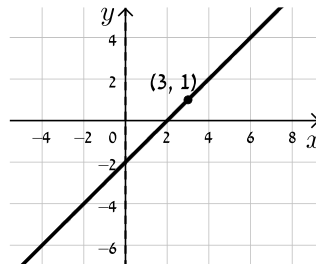
ו. להלן סקיצה:



26) א.  $x \neq 3$       ב. אין      ג. הפונקציה עולה בכל תחום הגדרתה

ד.  $(0,-2), (2,0)$       ה. אין, יש נקודת אי הגדרה ששיעוריה  $(3,1)$ .

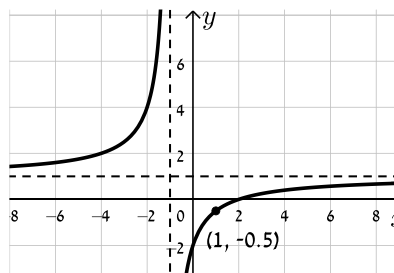
ו. להלן סקיצה:



27) א.  $x \neq \pm 1$       ב. אין      ג. הפונקציה עולה בכל תחום הגדרתה

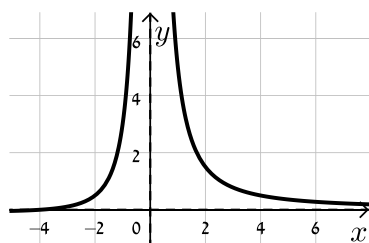
ד.  $(0,-2), (2,0)$       ה.  $y=1, x=-1$ , יש נקודת אי הגדרה:  $\left(1, -\frac{1}{2}\right)$ .

ו. להלן סקיצה:



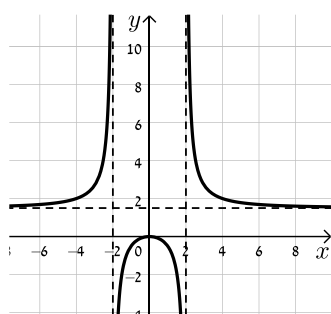
28 א.  $f(x) = \frac{x+4}{x^2}$ ,  $a=1$  ב. עולה:  $-8 < x < 0$  יורדת:  $x < -8, x > 0$

ג.  $(-4, 0)$  ד.  $x=0, y=0$



ה. להלן סקיצה:

29 א.  $x \neq \pm 2$  ב.  $\max(0, 0)$  ג. יורדת:  $x > 0, x \neq 2$  עולה:  $x < 0, x \neq -2$



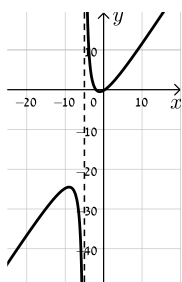
ד.  $(0, 0)$  ה.  $x = \pm 2, y = 1.5$  ו. להלן סקיצה:

30 א.  $a = \pm 2$  ב.  $(1, 0), (0, 4)$

ג. המשיק:  $y = -4x + 4$  אשר עובר בנקודה  $(1, 0)$ . נקודת החיתוך:  $(1, 0)$ .

31 א.  $x \neq -5$  ב.  $\min(-1, -0.5), \max(-9, -24.5)$

ג. עולה:  $x < -9, x > -1$  יורדת:  $-9 < x < -1$



ד.  $(-2, 0), (\frac{1}{3}, 0), (0, -0.2)$  ה.  $x = -5$  ו. להלן סקיצה:

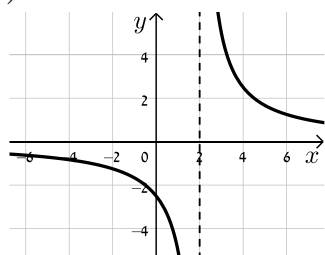
32 א.  $x \neq 1$  ב.  $x=1, y=1$  ג.  $(a, 0), (0, a)$  ד. i.  $a > 1$  ii.  $a = 2$

33 א.  $a = -3$  ב. i.  $x \neq 2$  ii.  $(0, -3)$  iii.  $\max(0, -3), \min(4, 5)$

ג.  $x < 2$  ד. iv.  $x = 2$  ה.  $-3 < k < 5$

34 א.  $A = -1$  ב.  $x \neq 2$  ד.  $(0, -2.5)$

ו. לא



ה. להלן סקיצה:

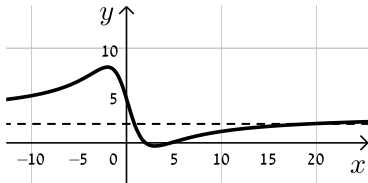
35 א.  $f(x) = \frac{3x^2 - 20x + 28}{x^2 + 6}$ ,  $a = 3$ . כל  $x$ .

ב.  $\min\left(3, -\frac{1}{3}\right)$ ,  $\max(-2, 8)$

ד.  $(2, 0)$ ,  $\left(0, 4\frac{2}{3}\right)$ ,  $\left(4\frac{2}{3}, 0\right)$

ו.  $k = 8$ ,  $-\frac{1}{3}$ ,  $3$

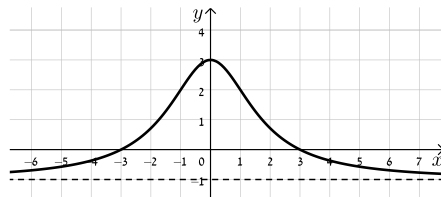
ג. עולה:  $x < -2$ ,  $x > 3$ , יורדת:  $-2 < x < 3$



ה. להלן סקיצה:

ה. באף נקודה.

36 ב.  $k = -3$  ג.  $(3, 0)$ ,  $(-3, 0)$  ד.  $y = -1$



ו. להלן סקיצה:

## חקירת פונקציות שורש:

### שאלות:

**37** נתונה הפונקציה:  $f(x) = \sqrt{x-3}$ . חקור את הפונקציה לפי הסעיפים הבאים:

- א. מציאת תחום ההגדרה.
- ב. מציאת נקודות הקיצון של הפונקציה.
- ג. כתיבת תחומי העלייה והירידה של הפונקציה.
- ד. מציאת נקודות החיתוך של גרף הפונקציה עם הצירים.
- ה. מציאת אסימפטוטות המקבילות לצירים.
- ו. שרטוט סקיצה של גרף הפונקציה.

**38** נתונה הפונקציה:  $f(x) = (x-4)\sqrt{x-1}$ . חקור את הפונקציה לפי הסעיפים הבאים:

- א. מציאת תחום ההגדרה.
- ב. מציאת נקודות הקיצון של הפונקציה.
- ג. כתיבת תחומי העלייה והירידה של הפונקציה.
- ד. מציאת נקודות החיתוך של גרף הפונקציה עם הצירים.
- ה. מציאת אסימפטוטות המקבילות לצירים.
- ו. שרטוט סקיצה של גרף הפונקציה.

**39** נתונה הפונקציה:  $f(x) = x\sqrt{6-x}$ . חקור את הפונקציה לפי הסעיפים הבאים:

- א. מציאת תחום ההגדרה.
- ב. מציאת נקודות הקיצון של הפונקציה.
- ג. כתיבת תחומי העלייה והירידה של הפונקציה.
- ד. מציאת נקודות החיתוך של גרף הפונקציה עם הצירים.
- ה. שרטוט סקיצה של גרף הפונקציה.

40 נתונה הפונקציה:  $f(x) = \frac{4\sqrt{x}}{x^2+3}$ . חקור את הפונקציה לפי הסעיפים הבאים:

- מציאת תחום ההגדרה.
- מציאת נקודות הקיצון של הפונקציה.
- כתיבת תחומי העלייה והירידה של הפונקציה.
- מציאת נקודות החיתוך של גרף הפונקציה עם הצירים.
- מציאת אסימפטוטות המקבילות לצירים.
- שרטוט סקיצה של גרף הפונקציה.

41 נתונה הפונקציה:  $f(x) = \frac{\sqrt{9-x^2}}{x}$ . חקור את הפונקציה לפי הסעיפים הבאים:

- מציאת תחום ההגדרה.
- מציאת נקודות הקיצון של הפונקציה.
- כתיבת תחומי העלייה והירידה של הפונקציה.
- מציאת נקודות החיתוך של גרף הפונקציה עם הצירים.
- מציאת אסימפטוטות המקבילות לצירים.
- שרטוט סקיצה של גרף הפונקציה.

42 נתונה הפונקציה הבאה:  $f(x) = \frac{\sqrt{x^2-2x}}{x^2}$ .

- מה הוא תחום ההגדרה של הפונקציה?
- מצא את נקודות קיצון של הפונקציה וקבע את סוגן.
- מצא את נקודת החיתוך של גרף הפונקציה עם ציר ה- $x$ .
- שרטט סקיצה של גרף הפונקציה.

43 נתונה הפונקציה הבאה:  $f(x) = \frac{x^2-4}{\sqrt{x}}$ .

- מצא את נקודת החיתוך של הפונקציה עם ציר ה- $x$ .
- האם ניתן להעביר משיק לגרף הפונקציה המקביל לציר ה- $x$ ? נמק והראה חישוב מתאים.
- כתוב את משוואת המשיק לגרף הפונקציה העובר דרך נקודת החיתוך שלה עם ציר ה- $x$ .
- חשב את שטח המשולש הכלוא בין המשיק והצירים.

44 נתונה הפונקציה הבאה:  $f(x) = \frac{x+3}{\sqrt{x}-1}$ .

- מהו תחום הגדרה של הפונקציה?
- כמה נקודות יש לגרף הפונקציה שהמשיק העובר דרכן מקביל לציר ה- $x$ ? מצא אותן.
- כתוב את משוואות המשיקים בנקודות שמצאת בסעיף הקודם.

45 נתונה הפונקציה:  $f(x) = \frac{\sqrt{9-x^2}}{x}$ . חקור לפי הסעיפים הבאים:

- מציאת תחום הגדרה.
- מציאת נקודות קיצון של הפונקציה.
- כתיבת תחומי העלייה והירידה של הפונקציה.
- מציאת נקודות החיתוך של גרף הפונקציה עם הצירים.
- מציאת אסימפטוטות המקבילות לצירים.
- סרטוט סקיצה של גרף הפונקציה.

46 נתונה הפונקציה הבאה:  $f(x) = \frac{ax+6}{\sqrt{9-x^2}}$ , פרמטר  $a$ .

- מעבירים משיק לגרף הפונקציה בנקודת החיתוך שלה עם ציר ה- $y$ . ידוע כי הוא מקביל לישר:  $3y-x=0$ .
- מצא את ערך הפרמטר  $a$ .
  - כתוב את תחום ההגדרה של הפונקציה.
  - מצא את נקודת הקיצון של הפונקציה.
  - כתוב את התחומי העלייה והירידה של הפונקציה.

47 נתונות שתי הפונקציות הבאות:  $f(x) = \frac{x}{\sqrt{x+k}}$ ,  $g(x) = \frac{\sqrt{x-k}}{x}$  ( $k$  פרמטר חיובי).

- ידוע כי הפונקציות חותכות זו את זו בנקודה שבה:  $x=0.8$ .
- מצא את  $k$ .
  - האם הפונקציות נחתכות בנקודה נוספת מלבד לנקודה הנתונה? אם כן מצא אותה.
  - מצא את משוואת המשיק לגרף הפונקציה  $f(x)$  בנקודה שבה:  $x=0.52$ .

48 נתונה הפונקציה הבאה:  $f(x) = \frac{kx}{\sqrt{k-x^2}}$ , פרמטר חיובי.

- א. ענה על הסעיפים הבאים:
- מהו תחום ההגדרה של הפונקציה? (בטא באמצעות  $k$ ).
  - מהן האסימפטוטות האנכיות של הפונקציה?
- ב. הראה כי הפונקציה עולה עבור כל ערך של  $k$  בתחום הגדרתה.
- ג. כתוב את משוואת המשיק לגרף הפונקציה בנקודת החיתוך שלה עם ציר ה- $x$ . (בטא באמצעות  $k$ ).
- ד. המשיק אשר מצאת בסעיף הקודם חותך את אחת האסימפטוטות של הפונקציה בנקודה A. ידוע כי שטח המשולש הכלוא בין המשיק, ציר ה- $x$  והאסימפטוטה הנ"ל הוא:  $S = 4$  יח"ש. מצא את ערך הפרמטר  $k$ .

49 נתונה הפונקציה:  $f(x) = \frac{x+2}{x+4}$ . מגדירים פונקציה נוספת:  $g(x) = \sqrt{f(x)}$ .

- א. כתוב בצורה מפורשת את הפונקציה  $g(x)$ .
- ב. לפניך מספר טענות המתייחסות לפונקציות  $f(x)$  ו- $g(x)$ . קבע אילו מהטענות הבאות נכונות ואלו אינן נכונות. הצדק את קביעותיך באמצעות חישוב מתאים:
- לפונקציות תחום הגדרה זהה.
  - שתי הפונקציות עולות בכל תחום הגדרתן.
  - שתי הפונקציות חותכות את ציר ה- $x$  באותה נקודה.
  - לשתי הפונקציות יש אסימפטוטה משותפת.
- ג. מצא את נקודות החיתוך של כל פונקציה עם ציר ה- $y$ . אסף פתר את סעיפים א' ו-ב' והחליט לטעון את הטענה הבאה:
- היות והפונקציה  $g(x)$  מוגדרת להיות:  $g(x) = \sqrt{f(x)}$  אזי ניתן למצוא את שיעור ה- $y$  של כל נקודה שעל גרף הפונקציה  $f(x)$  ע"י כך שנמצא תחילה את שיעור ה- $y$  של הנקודה בעלת אותו שיעור  $x$  על הגרף של  $g(x)$  ונעלה אותה בריבוע.
- ד. האם אסף צודק? נמק בצורה איכותית (חישובים אינם נדרשים) את שיקולך.

50) לפניך הפונקציות הבאות:  $f(x) = \frac{x}{\sqrt{x-1}}$ ,  $g(x) = \frac{x}{\sqrt{x-1}}$

א. קבע אילו מהטענות הבאות נכונות ואלו אינן נכונות. הצדק את קביעותיך באמצעות חישוב מתאים:

i. לשתי הפונקציות יש את אותו תחום ההגדרה.

ii. לשתי הפונקציות יש נקודות קיצון הנמצאות על הישר:  $y = x$ .

iii. הפונקציות לא חותכות זו את זו.

מגדירים פונקציה נוספת והיא:  $h(x) = (g(x))^2$ .

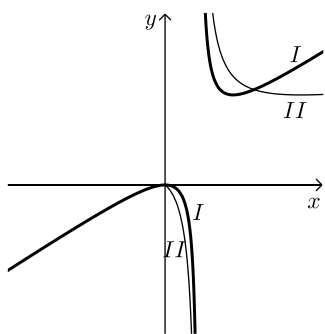
ב. כתוב באופן מפורש את הפונקציה החדשה:  $h(x)$ .

ג. האם תחום ההגדרה של הפונקציה  $h(x)$  זהה לשל  $g(x)$ ?

ד. באיור הסמוך ישנם שני גרפים.

קבע על סמך הסעיפים הקודמים איזו פונקציה כל גרף

מתאר מבין הפונקציות:  $f(x)$ ,  $g(x)$ ,  $h(x)$ . נמק את בחירותיך.



51) לפניך שלוש פונקציות:  $f(x) = x^2\sqrt{k-x^2}$ ,  $g(x) = \frac{x^2}{\sqrt{k-x^2}}$ ,  $h(x) = \frac{\sqrt{k-x^2}}{x^2}$  ( $k > 0$ ).

א. קבע אילו מהטענות הבאות נכונות ואלו אינן נכונות. הצדק את קביעותיך באמצעות חישוב מתאים:

i. לפונקציות  $f(x)$  ו- $g(x)$  תחום הגדרה זהה, השונה מתחום ההגדרה של  $h(x)$ .

ii. קיימת פונקציה אשר אינה חותכת את ציר ה- $x$  כלל.

iii. הפונקציות:  $h(x)$  ו- $g(x)$  הפוכות זו מזו בתחומי העלייה והירידה שלהן

(כאשר אחת עולה השנייה יורדת).

iv. לפונקציה:  $f(x)$  יש נקודת קיצון אחת בלבד.

מסמנים נקודה  $A(0, \sqrt{12})$  על ציר ה- $y$ . ידוע כי מרחקה מאחת מנקודות החיתוך

של גרף הפונקציה  $f(x)$  עם ציר ה- $x$  שאינה בראשית הוא:  $d = 6$ .

ב. מצא את  $k$ .

ג. מצא את נקודות הקיצון של גרף

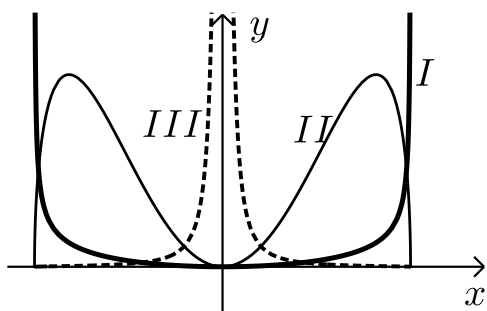
הפונקציה  $f(x)$  וקבע את סוגן.

ד. לפניך איור ובו מסורטטות הסקיצות של

שלושת הפונקציות.

קבע עפ"י הסעיפים הקודמים איזה גרף

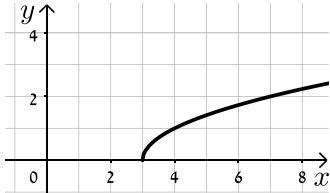
שייך לכל פונקציה.



## תשובות סופיות:

(37) א.  $x \geq 3$     ב.  $\min(3,0)$  קצה    ג. הפונקציה עולה בכל ת.ה.

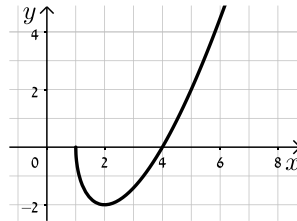
ד.  $(3,0)$     ה. אין.    ו. להלן סקיצה:



(38) א.  $x \geq 1$     ב.  $\max(1,0)$ ,  $\min(2,-2)$  קצה

ג. עולה:  $x > 2$ , יורדת:  $1 < x < 2$     ד.  $(1,0)$ ,  $(4,0)$     ה. אין.

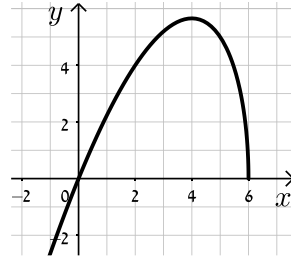
ו. להלן סקיצה:



(39) א.  $x \leq 6$     ב.  $\min(6,0)$ ,  $\max(4,4\sqrt{2})$  קצה

ג. עלייה:  $x < 4$ , ירידה:  $4 < x < 6$     ד.  $(6,0)$ ,  $(0,0)$

ה. להלן סקיצה:



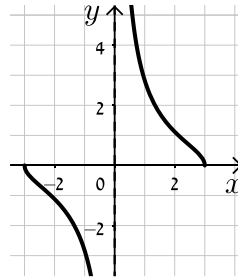
(40) א.  $x \geq 0$     ב.  $\min(0,0)$ ,  $\max(1,1)$  קצה

ג. עולה:  $0 < x < 1$ , יורדת:  $x > 1$     ד.  $(0,0)$     ה.  $y = 0$ .

ו. להלן סקיצה:

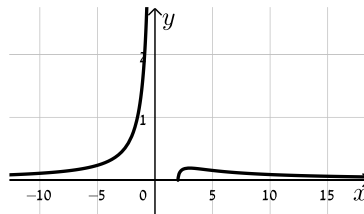


- (41)** א.  $-3 \leq x \leq 3$  וגם  $x \neq 0$       ב.  $\max(-3,0)$  קצה,  $\min(3,0)$  קצה  
 ג. עולה: אף  $x$ , יורדת:  $-3 \leq x \leq 3$ ,  $x \neq 0$       ד.  $(-3,0), (3,0)$



ה.  $x=0$ .      ו. להלן סקיצה:

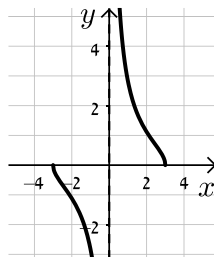
- (42)** א.  $x < 0$ ,  $x \geq 2$       ב.  $\min(2,0)$ ,  $\max\left(3, \frac{1}{\sqrt{27}}\right)$       ג.  $(2,0)$       ד. להלן סקיצה:



- (43)** א.  $(2,0)$       ב. לא      ג.  $y = 2\sqrt{2}x - 4\sqrt{2}$       ד.  $S = 4\sqrt{2}$

- (44)** א.  $x \neq 1$ ,  $x \geq 0$       ב.  $(9,6)$       ג.  $y = 6$

- (45)** א.  $-3 \leq x \leq 3$  וגם  $x \neq 0$       ב.  $\max(-3,0)$  קצה,  $\min(3,0)$  קצה  
 ג. עולה: אף  $x$ , יורדת:  $-3 \leq x \leq 3$  וגם  $x \neq 0$       ד.  $(-3,0), (3,0)$



ה.  $x=0$ .      ו. להלן סקיצה:

- (46)** א.  $a=1$       ב.  $-3 < x < 3$       ג.  $(-1.5, \sqrt{3})$       ד. יורדת:  $-3 < x < -1.5$ , עולה:  $-1.5 < x < 3$

- (47)** א.  $k=0.48$       ב. כן,  $(0.6, 0.57)$       ג.  $y = 0.74x + 0.1352$

- (48)** א. i.  $-\sqrt{k} < x < \sqrt{k}$       ii.  $x = \pm\sqrt{k}$       ב.  $f'(x) = \frac{k^2}{(k-x^2)^{1.5}} > 0$       ג.  $y = \sqrt{k}x$       ד.  $k=4$

$$g(x) = \sqrt{\frac{x+2}{x+4}} \quad \text{א. (49)}$$

ב. i. לא נכון      ii. נכון

$$f(x) : \left(0, \frac{1}{2}\right), g(x) : \left(0, \frac{1}{\sqrt{2}}\right) \quad \text{ג.}$$

iii. נכון      iv. נכון

ד. אסוף צודק.

$$h(x) = \frac{x^2}{x-1} \quad \text{ב.}$$

iii. נכון

א. i. לא נכון      ii. נכון      (50)

$$\text{I} = h(x), \text{II} = f(x) \quad \text{ד.}$$

$$h(x) : x \neq 1, \text{ג.}$$

iv. נכון

iii. נכון

ii. לא נכון

i. לא נכון      (51)

$$\text{ב. } k = 24 \quad \text{ג. } \min(0,0), \max(\pm 4, 32\sqrt{2})$$

$$\text{ד. } \text{I} = g(x), \text{II} = f(x), \text{III} = h(x)$$

## תחומי קעירות ונקודות פיתול:

### סיכום כללי:

#### תחומי קעירות – הגדרה:

- פונקציה  $f(x)$  קעורה כלפי מטה (קמורה) בתחום  $[x_0, x_1]$  אם לכל  $x$  בתחום הנ"ל המשיק לפונקציה נמצא מעל לגרף הפונקציה.  
כדי למצוא תחומי קעירות כלפי מטה יש למצוא תחום שבו:  $f''(x) < 0$ .
- פונקציה  $f(x)$  קעורה כלפי מעלה (קעורה) בתחום  $[x_0, x_1]$  אם לכל  $x$  בתחום הנ"ל המשיק לפונקציה נמצא מתחת לגרף הפונקציה.  
כדי למצוא תחומי קעירות כלפי מעלה יש למצוא תחום שבו:  $f''(x) > 0$ .

#### נקודת פיתול – הגדרות:

- נקודת פיתול היא נקודה שבה הפונקציה עוברת מתחום קעירות כלפי מטה לקעירות כלפי מעלה ולהיפך.
- נקודת פיתול מקיימת:  $f''(x) = 0$  כאשר ערך הנגזרת השנייה משנה את סימנו בתחום שלפני ואחרי הנקודה המאפסת אותו.
- בנקודת פיתול המשיק לגרף הפונקציה חותך אותה ולא רק משיק לה מכיוון אחד.

### שאלות:

(52) מצא את נקודות הפיתול ואת תחומי הקעירות של הפונקציה:  $f(x) = x^4 - 6x^3 + 12x^2$ .

(53) מצא את נקודות הפיתול ואת תחומי הקעירות של הפונקציה:  $f(x) = \frac{3x-2}{x^2}$ .

(54) מצא את נקודות הקיצון והפיתול של הפונקציה:  $f(x) = \frac{2x}{\sqrt{x-1}}$ .

(55) מצא את נקודות הקיצון והפיתול של הפונקציה:  $f(x) = x(x-2)^3$ .

56 נתונה הפונקציה:  $f(x) = \frac{a}{x^2 + b}$ ,  $a, b$  פרמטרים.

הנקודה  $(-1, 1)$  היא נקודת פיתול של הפונקציה.  
מצא את ערכי הפרמטרים  $a, b$ .

57 נתונה הפונקציה:  $f(x) = \frac{1}{x} - \frac{1}{x^2} + 2$ . חקור את הפונקציה לפי הסעיפים הבאים:

- א. מציאת תחום הגדרה.
- ב. מציאת נקודות קיצון של הפונקציה.
- ג. כתיבת תחומי העלייה והירידה של הפונקציה.
- ד. מציאת נקודות החיתוך של גרף הפונקציה עם הצירים.
- ה. מציאת אסימפטוטות המקבילות לצירים.
- ו. מציאת נקודות פיתול.
- ז. מציאת תחומי הקעירות כלפי מעלה ומטה.
- ח. סרטוט סקיצה של גרף הפונקציה.

58 נתונה הפונקציה:  $f(x) = \frac{2x}{x - \sqrt{x}}$ . חקור את הפונקציה לפי הסעיפים הבאים:

- א. מציאת תחום הגדרה.
- ב. מציאת נקודות קיצון של הפונקציה.
- ג. כתיבת תחומי העלייה והירידה של הפונקציה.
- ד. מציאת נקודות החיתוך של גרף הפונקציה עם הצירים.
- ה. מציאת אסימפטוטות המקבילות לצירים.
- ו. מציאת נקודות פיתול.
- ז. מציאת תחומי הקעירות כלפי מעלה ומטה.
- ח. סרטוט סקיצה של גרף הפונקציה.

59) חקור את הפונקציות הבאות לפי הסעיפים הבאים :

- i. מציאת תחום הגדרה.
- ii. מציאת נקודות חיתוך עם הצירים.
- iii. מציאת נקודות קיצון וקביעת סוגן.
- iv. מציאת תחומי העלייה והירידה של הפונקציה.
- v. מציאת אסימפטוטות המקבילות לצירים.
- vi. מציאת נקודות הפיתול של הפונקציה.
- vii. מציאת תחומי הקעירות של הפונקציה.
- viii. סרטוט סקיצה של גרף הפונקציה.

$$f(x) = \frac{2x^2}{(x+1)^2} \quad \text{ב.} \qquad f(x) = \frac{x-1}{x^2} \quad \text{א.}$$

$$f(x) = \frac{x^3}{(x+1)^2} \quad \text{ד.} \qquad f(x) = \frac{x^3}{x^2-4} \quad \text{ג.}$$

$$f(x) = \frac{x^2-1}{(x-2)(x-5)} \quad \text{ו.} \qquad f(x) = \left(\frac{x+1}{x-1}\right)^3 \quad \text{ה.}$$

$$f(x) = \frac{x^3-x^2}{x^2-1} \quad \text{ח.} \qquad f(x) = \frac{x^2-4x+3}{x^2-4} \quad \text{ז.}$$

הערה: בסעיפים ו ו-ז יש לבצע חקירה ללא סעיפים vi ו-vii.

**תשובות סופיות:**

52 (1,7), (2,16), קעירות כלפי מעלה:  $x > 2$  או  $x < 1$ , קעירות כלפי מטה:  $1 < x < 2$ .

53 (2,1), קעירות כלפי מעלה:  $x > 2$ , קעירות כלפי מטה:  $0 \neq x < 2$ .

54 קיצון:  $\min(2,4)$ , פיתול:  $\left(4, \frac{8}{\sqrt{3}}\right)$ .

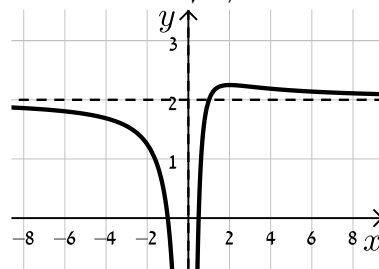
55 קיצון:  $\min\left(\frac{1}{2}, -\frac{27}{16}\right)$ , פיתול: (1,-1), (2,0).

56  $a = 4, b = 3$ .

57 א.  $x \neq 0$ . ב.  $\max\left(2, 2\frac{1}{4}\right)$ . ג. עולה:  $0 < x < 2$ ; יורדת:  $x > 2, x < 0$ .

ד.  $\left(\frac{1}{2}, 0\right), (-1, 0)$ . ה.  $x = 0, y = 2$ . ו.  $\left(3, 2\frac{2}{9}\right)$ .

ז. קעירות כלפי מעלה:  $x > 3$ , קעירות כלפי מטה:  $0 \neq x < 3$ .

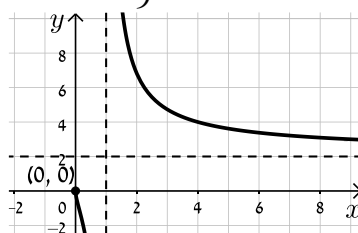


ח. להלן סקיצה:

58 א.  $1 \neq x > 0$ . ב. אין. ג. יורדת בכל תחום הגדרתה.

ד. אין. ה.  $x = 1, y = 2$  נקודת אי הגדרה: (0,0). ו.  $\left(\frac{1}{9}, -1\right)$ .

ז. קעירות כלפי מעלה:  $x > 1$  או  $0 < x < \frac{1}{9}$ , קעירות כלפי מטה:  $\frac{1}{9} < x < 1$ .



ח. להלן סקיצה:

59 א. i.  $x \neq 0$ . ii. (1,0). iii.  $x = 0, y = 0$ . iv.  $\max(2, 0.25)$ .

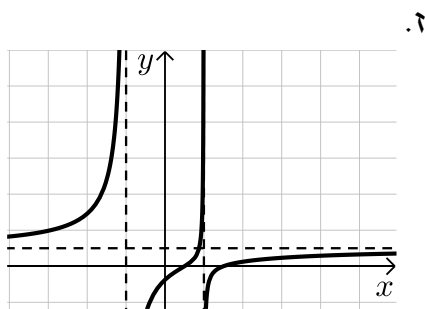
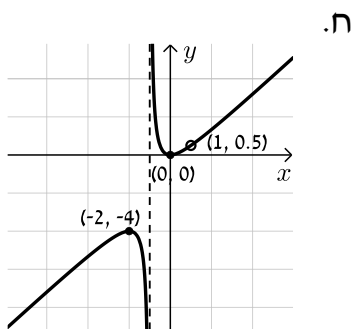
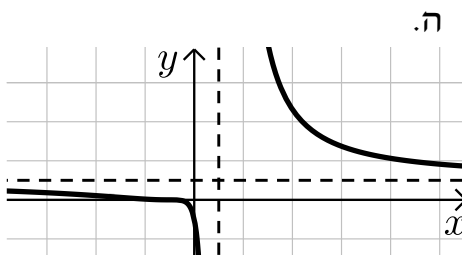
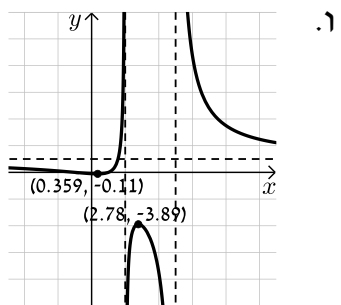
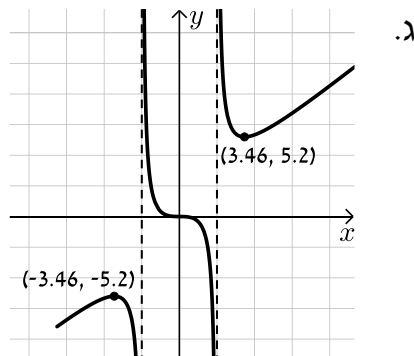
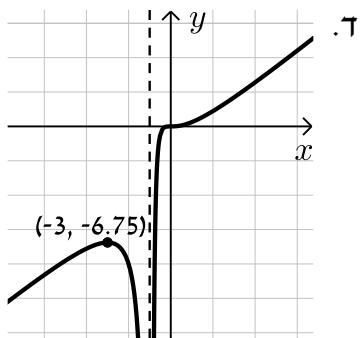
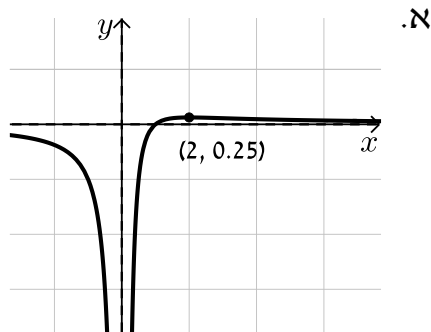
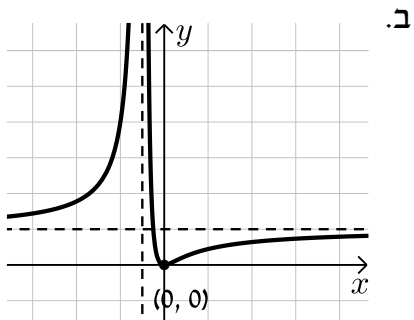
v. עולה:  $0 < x < 2$ , יורדת:  $x < 0, x > 2$ . vi.  $\left(3, \frac{2}{9}\right)$ .

vii. קעורה כלפי מעלה:  $x > 3$ , קעורה כלפי מטה:  $0 < x < 3, x < 0$ .

ב. i.  $x \neq -1$ . ii. (0,0). iii.  $x = -1, y = 2$ . iv.  $\min(0,0)$ .

- v. עולה:  $x < -1$ ,  $x > 0$ , יורדת:  $-1 < x < 0$  .vi  $\left(\frac{1}{2}, \frac{2}{9}\right)$
- vii. קעורה כלפי מעלה:  $-1 < x < \frac{1}{2}$ , קעורה כלפי מטה:  $x < -1$ ,  $x < \frac{1}{2}$
- ג. i.  $x \neq \pm 2$  .ii  $(0,0)$  .iii  $x = \pm 2$
- iv.  $\min(\sqrt{12}, 5.2)$ ,  $\max(-\sqrt{12}, -5.2)$
- v. עולה:  $x > \sqrt{12}$ ,  $x < -\sqrt{12}$ , יורדת:  $2 < x < \sqrt{12}$ ,  $-2 < x < 2$ ,  $-\sqrt{12} < x < -2$  .vi  $(0,0)$
- vii. קעורה כלפי מעלה:  $x > 2$ ,  $-2 < x < 0$ , קעורה כלפי מטה:  $0 < x < 2$ ,  $x < -2$
- ד. i.  $x \neq -1$  .ii  $(0,0)$  .iii  $x = -1$  .iv  $\max(-3, -6.75)$
- v. עולה:  $x > -1$ ,  $x < -3$ , יורדת:  $-3 < x < -1$  .vi  $(0,0)$
- vii. קעורה כלפי מעלה:  $x > 0$ , קעורה כלפי מטה:  $-1 < x < 0$ ,  $x < -1$
- ה. i.  $x \neq 1$  .ii  $(-1,0), (0,-1)$  .iii  $x = 1, y = 1$  .iv אין
- v. יורדת בכל ת.ה. .vi  $\left(-3, \frac{1}{8}\right), (-1,0)$
- vii. קעורה כלפי מעלה:  $-3 < x < -1$ ,  $x > 1$ , קעורה כלפי מטה:  $-1 < x < 1$ ,  $x < -3$
- ו. i.  $x \neq 2, 5$  .ii  $(0, -0.1), (-1, 0), (1, 0)$  .iii  $x = 2, x = 5, y = 1$
- iv.  $\min(0.359, -0.11)$ ,  $\max(2.78, -3.89)$
- v. עולה:  $2 < x < 2.78$ ,  $0.359 < x < 2$ , יורדת:  $x > 5$ ,  $2.78 < x < 5$ ,  $x < 0.359$
- ז. i.  $x \neq \pm 2$  .ii  $(3,0), (1,0), (0,-0.75)$  .iii  $x = \pm 2, y = 1$
- iv. אין .v יורדת בכל ת.ה.
- ח. i.  $x \neq \pm 1$  .ii  $(0,0)$  .iii  $x = -1$  .iv  $\min(0,0)$ ,  $\max(-2,-4)$
- v. עולה:  $x > 0$ ,  $x < -2$ ,  $x \neq 1$ , יורדת:  $-1 < x < 0$ ,  $-2 < x < -1$
- vi. אין .vii קעורה כלפי מעלה:  $x > -1$ ,  $x \neq 1$ , קעורה כלפי מטה:  $x < -1$

**סקיצות:**



## חקירת פונקציה עם פרמטר:

### סיכום כללי:

סיווג נקודות קיצון באמצעות  $y''$  :

אם הנקודה  $A(x_1, y_1)$  היא נקודת קיצון אז :

- אם  $f''(x_1) > 0$  הנקודה  $A(x_1, y_1)$  היא נקודת מינימום.
- אם  $f''(x_1) < 0$  הנקודה  $A(x_1, y_1)$  היא נקודת מקסימום.

### שאלות:

(1) מצא וסווג את נקודות הקיצון של הפונקציה:  $f(x) = x^3 - 12x$ .

(2) מצא וסווג את נקודות הקיצון של הפונקציה:  $f(x) = x^2 - 6x - 16$ .

(3) מצא וסווג את נקודות הקיצון של הפונקציה:  $f(x) = x^3 - 3b^2x$ ,  $b > 0$ , פרמטר. שרטט סקיצה של גרף הפונקציה.

(4) נתונה הפונקציה:  $f(x) = \frac{2x}{a^2 + x^2}$  ( $a > 0$ ). חקור לפי הסעיפים הבאים:

- א. מציאת תחום ההגדרה.
- ב. מציאת נקודות קיצון של הפונקציה.
- ג. כתיבת תחומי העלייה והירידה של הפונקציה.
- ד. מציאת נקודות החיתוך של גרף הפונקציה עם הצירים.
- ה. מציאת אסימפטוטות המקבילות לצירים.
- ו. שרטוט סקיצה של גרף הפונקציה.

(5) נתונה הפונקציה:  $f(x) = \frac{1-x^2}{(x-b)^2}$ ,  $(b > 1)$ . חקור לפי הסעיפים הבאים:

- א. מציאת תחום ההגדרה.
- ב. מציאת נקודות קיצון של הפונקציה.
- ג. כתיבת תחומי העלייה והירידה של הפונקציה.
- ד. מציאת נקודות החיתוך של גרף הפונקציה עם הצירים.
- ה. מציאת אסימפטוטות המקבילות לצירים.
- ו. שרטוט סקיצה של גרף הפונקציה.

(6) נתונה הפונקציה:  $f(x) = 4x\sqrt{b^2 - x^2}$ ,  $(b > 0)$ .

חקור לפי הסעיפים הבאים:

- א. מציאת תחום ההגדרה.
- ב. מציאת נקודות קיצון של הפונקציה.
- ג. כתיבת תחומי העלייה והירידה של הפונקציה.
- ד. מציאת נקודות החיתוך של גרף הפונקציה עם הצירים.
- ה. שרטוט סקיצה של גרף הפונקציה.

(7) נתונה הפונקציה:  $f(x) = \frac{x^2 - m}{ax - 4}$ ,  $a, m$  פרמטרים קבועים כאשר:  $a > 0$ .

ידוע כי אחת מנקודות הקיצון של הפונקציה נמצאת על ציר ה- $y$ .

- א. מצא את הערך של הפרמטר  $m$ .
- ב. הצב את הערך של  $m$  שמצאת בסעיף א' והבא באמצעות  $a$  את:
  - i. תחום ההגדרה של הפונקציה.
  - ii. נקודות הקיצון של הפונקציה וקבע את סוגן.
  - iii. האסימפטוטות לגרף הפונקציה המקבילות לצירים.
- ג. סרטט סקיצה וסמן בה את נקודות הקיצון ואת משוואות האסימפטוטות שהבעת באמצעות  $a$  בסעיף הקודם.
- ד. ידוע כי נקודת הקיצון שאינה על ציר ה- $y$  נמצאת במרחקים שווים מהצירים. מצא את הערך של הפרמטר  $a$ .
- ה. נתון הישר:  $y = k$ . מצא עבור אילו ערכים של  $k$  אין לישר ולגרף הפונקציה נקודות משותפות כלל.

**תשובות סופיות:**

(1)  $\min(2, -16)$  ,  $\max(-2, 16)$

(2)  $\min(3, -25)$

(3)  $\min(b, -2b^3)$  ,  $\max(-b, 2b^3)$

(4) א. כל  $x$  ב.  $\max\left(a, \frac{1}{a}\right)$  ,  $\min\left(-a, -\frac{1}{a}\right)$

ג. עולה:  $-a < x < a$  יורדת:  $x < -a$  ,  $x > a$

ד.  $(0, 0)$  ה. אסימפטוטה אופקית:  $y = 0$

(5) א.  $x \neq b$  ב.  $\max\left(\frac{1}{b}, \frac{1}{b^2 - 1}\right)$  ג. עולה:  $x > b$  ,  $x < \frac{1}{b}$  יורדת:  $\frac{1}{b} < x < b$

ד.  $\left(0, \frac{1}{b^2}\right)$  ,  $(-1, 0)$  ,  $(1, 0)$  ה.  $x = b$  ,  $y = -1$

(6) א.  $-b \leq x \leq b$  ב.  $\min\left(-\frac{b}{\sqrt{2}}, -2b^2\right)$  ,  $\max\left(\frac{b}{\sqrt{2}}, 2b^2\right)$  ,  $\min(-b, 0)$  קצה,

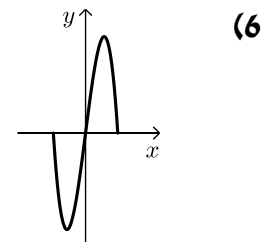
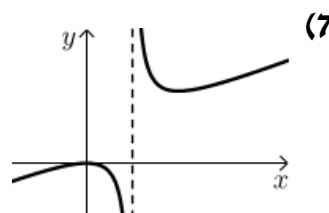
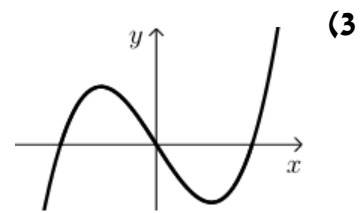
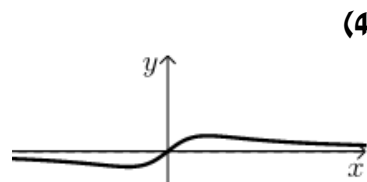
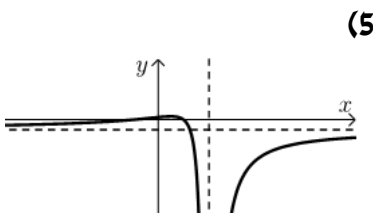
$\min(b, 0)$  קצה. ג. עולה:  $-\frac{b}{\sqrt{2}} < x < \frac{b}{\sqrt{2}}$  , יורדת:  $\frac{b}{\sqrt{2}} < x < b$  ,  $-b < x < -\frac{b}{\sqrt{2}}$

ד.  $(b, 0)$  ,  $(-b, 0)$  ,  $(0, 0)$

(7) א.  $m = 0$  ב.  $x \neq \frac{4}{a}$  ב. ii.  $\max(0, 0)$  ,  $\min\left(\frac{8}{a}, \frac{16}{a^2}\right)$

ב. iii.  $x = \frac{4}{a}$  ד.  $a = 2$  ה.  $0 < k < 4$

**סקיצות לשאלות:**



# קורס מתמטיקה להנדסאי טכנולוגיות מים

פרק 25 - חשבון דיפרנציאלי - הקשר שבין גרף הפונקציה וגרף הנגזרת

תוכן העניינים

1. כללי ..... (ללא ספר)

# קורס מתמטיקה להנדסאי טכנולוגיות מים

פרק 26 - חשבון דיפרנציאלי - חקירת פונקציות טריגונומטריות

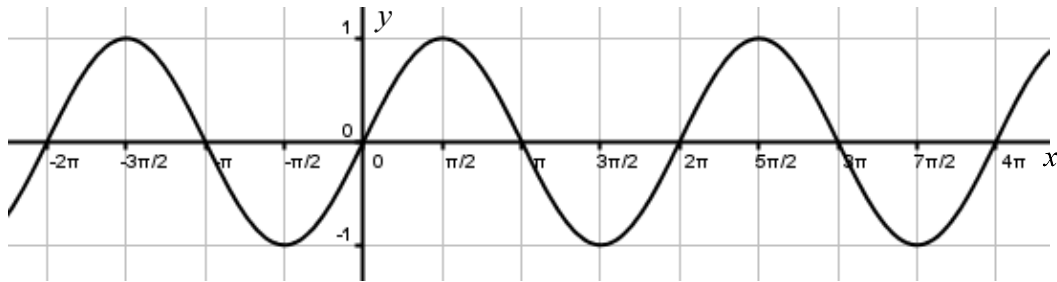
תוכן העניינים

412	1. הגדרות כלליות
414	2. גזירה של פונקציות טריגונומטריות
416	3. שאלות עם משיקים
418	4. מציאת תחום ההגדרה של פונקציות טריגונומטריות
419	5. מציאת נקודות קיצון
420	6. מציאת אסימפטוטות המקבילות לצירים
421	7. מציאת נקודות פיתול ותחומי קעירות
422	8. חקירת פונקציה טריגונומטרית

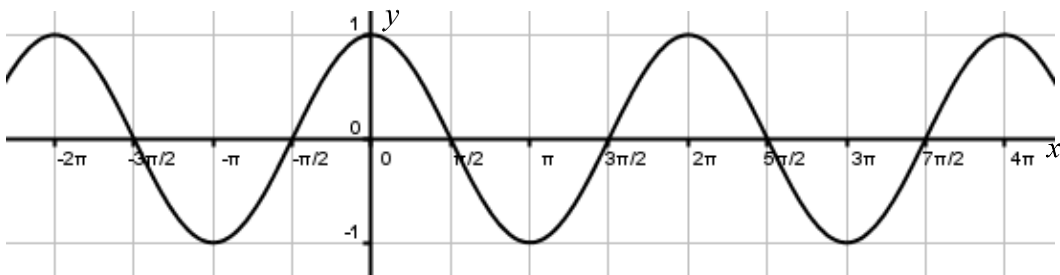
## הגדרות כלליות:

### סיכום כללי:

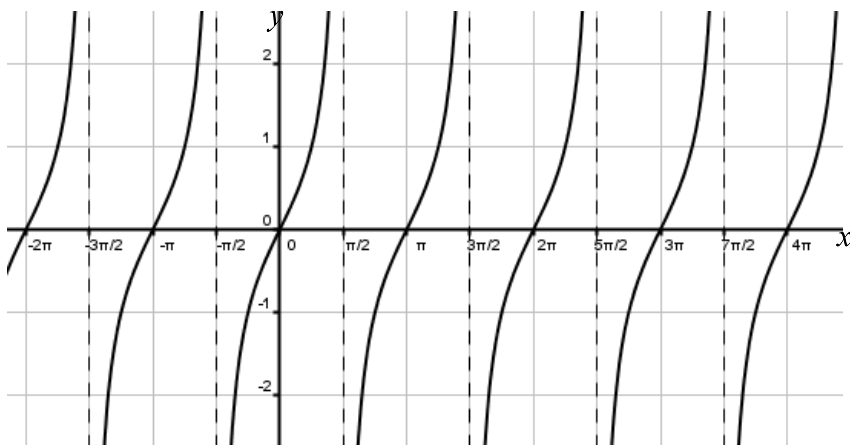
תיאור גרפי של פונקציית הסינוס  $y = \sin x$ :



תיאור גרפי של פונקציית הקוסינוס  $y = \cos x$ :



תיאור גרפי של פונקציית הטנגנס  $y = \tan x$ :



## הנגזרות הטריגונומטריות היסודיות:

הפונקציה	הנגזרת
$y = \sin x$	$y' = \cos x$
$y = \cos x$	$y' = -\sin x$
$y = \tan x$	$y' = \frac{1}{\cos^2 x}$
$y = \cot x$	$y' = -\frac{1}{\sin^2 x}$

## זוגיות של פונקציות:

- פונקציה  $f(x)$  תקרא זוגית אם היא מקיימת את התכונה הבאה:  $f(x) = f(-x)$ .
- פונקציה  $f(x)$  תקרא אי-זוגית אם היא מקיימת את התכונה הבאה:  $f(x) = -f(-x)$ .
- פונקציה אשר אינה מקיימת אף אחת מהתכונות הנ"ל אינה זוגית ואינה אי-זוגית.

## מחזוריות של פונקציות:

- (1) פונקציה  $f(x)$  תיקרא מחזורית במחזור  $T$  אם היא מקיימת:  $f(x+T) = f(x)$  לכל  $x$  בתחום הגדרתה.
- (2) מחזור של פונקציות טריגונומטריות:
  - הפונקציה  $f(x) = \sin x$  מחזורית במחזור  $T = 2\pi$  שכן:  $\sin(x+2\pi) = \sin x$ .
  - הפונקציה  $f(x) = \cos x$  מחזורית במחזור  $T = 2\pi$  שכן:  $\cos(x+2\pi) = \cos x$ .
  - הפונקציה  $f(x) = \tan x$  מחזורית במחזור  $T = \pi$  שכן:  $\tan(x+\pi) = \tan x$ .
  - הפונקציה  $f(x) = \cot x$  מחזורית במחזור  $T = \pi$  שכן:  $\cot(x+\pi) = \cot x$ .

## גזירה של פונקציות טריגונומטריות:

### שאלות:

(1) גזור את הפונקציות הבאות:

א.  $f(x) = \sin x + 3 \cos x + x$

ג.  $f(x) = \frac{\sin x}{1 + \sin x}$

ב.  $f(x) = 2x \sin x + 4 \tan x$

(2) גזור את הפונקציות הבאות:

א.  $f(x) = \sin 3x + 2 \cos 5x$

ב.  $f(x) = \frac{\cos 2x}{1 + \sin 2x}$

(3) גזור את הפונקציות הבאות:

א.  $f(x) = \sin^3 x$

ג.  $f(x) = \sin^2 x$

ה.  $f(x) = \cos^2 2x$

ב.  $f(x) = 2 \cos^4 x$

ד.  $f(x) = \sin^3 2x$

ו.  $f(x) = \tan^2 4x$

(4) גזור את הפונקציות הבאות:

א.  $f(x) = \sqrt{\sin 3x}$

ב.  $f(x) = \frac{\sin 2x}{\sqrt{\cos 2x}}$

(5) גזור את הפונקציות הבאות:

א.  $f(x) = \sin^2 x - \cos^2 x$

ג.  $f(x) = \sin^4 x + \cos^4 x$

ב.  $f(x) = \sin^4 2x - \cos^4 2x$

**תשובות סופיות:**

$$\frac{\cos x}{(1 + \sin x)^2} \cdot \lambda \quad 2 \sin x + 2x \cos x + \frac{4}{\cos^2 x} \cdot \beta \quad \cos x - 3 \sin x + 1 \cdot \aleph \quad (1)$$

$$\cdot -\frac{2}{1 + \sin 2x} \cdot \beta \quad 3 \cos 3x - 10 \sin 5x \cdot \aleph \quad (2)$$

$$\sin 2x \cdot \lambda \quad -8 \cos^3 x \sin x \cdot \beta \quad 3 \sin^2 x \cdot \cos x \cdot \aleph \quad (3)$$

$$\cdot \frac{8 \tan 4x}{\cos^2 4x} \cdot \lambda \quad -2 \sin 4x \cdot \eta \quad 6 \sin^2 2x \cos 2x \cdot \delta$$

$$\cdot \frac{\cos^2 2x + 1}{\cos 2x \sqrt{\cos 2x}} \cdot \beta \quad \frac{3 \cos 3x}{2 \sqrt{\sin 3x}} \cdot \aleph \quad (4)$$

$$\cdot -\sin 4x \cdot \lambda \quad 4 \sin 4x \cdot \beta \quad 2 \sin 2x \cdot \aleph \quad (5)$$

## שאלות עם משיקים:

### שאלות:

(6) מצא את משוואת המשיק לפונקציה:  $f(x) = \cos x$  בנקודה  $A\left(\frac{\pi}{6}, \frac{\sqrt{3}}{2}\right)$ .

(7) מצא את משוואת המשיק לפונקציה:  $f(x) = \sin 2x$  בנקודה שבה  $x = \frac{\pi}{2}$ .

(8) מצא את משוואת המשיק לפונקציה:  $f(x) = \tan 3x$  בנקודה שבה  $x = \frac{\pi}{9}$ .

(9) מצא את משוואות המשיקים לפונקציה:  $f(x) = 4\sin^2 x$  בנקודות החיתוך של הפונקציה עם הישר  $y = 1$  בתחום  $[0, \pi]$ .

(10) שיפוע המשיק לפונקציה:  $f(x) = \sqrt{\sin x + a}$ ,  $a$  (פרמטר) בנקודה שבה  $y = 1$

בתחום  $\left[0, \frac{\pi}{2}\right]$  הוא  $\frac{\sqrt{3}}{4}$ .

מצא את ערך הפרמטר  $a$ .

(11) נתונה הפונקציה:  $f(x) = a\sin^2 x - 5\sin x + ax$ ,  $a$  (פרמטר) בתחום:  $0 \leq x \leq \pi$ .

ידוע כי הישר:  $y = ax - 2$  חותך את גרף הפונקציה בנקודה שבה  $x = \frac{\pi}{6}$ .

א. מצא את  $a$  וכתוב את הפונקציה  $f(x)$ .

ב. מצא נקודה על גרף הפונקציה בתחום הנתון שבה שיפוע המשיק הוא:  $m = 2$ .

ג. האם קיימות נקודות נוספות בתחום הנתון ששיפוע המשיק דרכן הוא 2? נמק את תשובתך.

ד. כתוב את משוואת המשיק העובר דרך הנקודה שמצאת.

**(12)** נתונות הפונקציות הבאות:  $f(x) = x^2 + \cos^2 x$ ,  $g(x) = x^2 + \sin^2 x$ .

א. הוכח כי ההפרש:  $f(x) - g(x)$  שווה ל- $\cos 2x$ .

ב. מצא את נקודות החיתוך של הפונקציות בתחום:  $-\pi < x < \pi$ .

ג. ישר  $x = t$ ,  $(0 < t < 1)$  חותך את הגרפים בנקודות A ו-B ומהן מעבירים משיקים

לפונקציות. ידוע כי ההפרש בין שיפוע המשיק של גרף הפונקציה  $g(x)$  לשיפוע

המשיק של גרף הפונקציה  $f(x)$  הוא 1.

מצא את כל הערכים האפשריים עבור  $t$ .

### תשובות סופיות:

$$y = -\frac{1}{2}x + \frac{\pi}{12} + \frac{\sqrt{3}}{2} \quad (6)$$

$$y = -2x + \pi \quad (7)$$

$$y = 12x - \frac{4\pi}{3} + \sqrt{3} \quad (8)$$

$$y = 2\sqrt{3}x - \frac{\pi\sqrt{3}}{3} + 1, y = -2\sqrt{3}x + \frac{5\pi\sqrt{3}}{3} + 1 \quad (9)$$

$$a = \frac{1}{2} \quad (10)$$

$$f(x) = 2\sin^2 x - 5\sin x + 2x, a = 2. \text{ א. } \left(\frac{\pi}{2}, \pi - 3\right). \text{ ב. } \left(\frac{\pi}{2}, \pi - 3\right). \text{ ג. לא. } \tau. y = 2x - 3. \quad (11)$$

$$\left(-\frac{3\pi}{4}, 6.05\right), \left(-\frac{\pi}{4}, 1.11\right), \left(\frac{3\pi}{4}, 6.05\right), \left(\frac{\pi}{4}, 1.11\right). \text{ ב. } t = \frac{\pi}{12}. \text{ ג. } \quad (12)$$

## מציאת תחום ההגדרה של פונקציות טריגונומטריות:

שאלות:

13 מצא את תחום ההגדרה של הפונקציות הבאות בתחום הנתון:

ב.  $f(x) = \frac{1}{\sin x - \cos x}$ ,  $[-\pi, \pi]$

א.  $f(x) = \frac{\sin x}{1 + \cos 2x}$ ,  $[0, 2\pi]$

ג.  $f(x) = \tan x$ ,  $[0, 2\pi]$

תשובות סופיות:

ב.  $-\pi \leq x \leq \pi$  וגם  $x \neq \frac{\pi}{4}, -\frac{3\pi}{4}$

13 א.  $0 \leq x \leq 2\pi$  וגם  $x \neq \frac{\pi}{2}, \frac{3\pi}{2}$

ג.  $0 \leq x \leq 2\pi$  וגם  $x \neq \frac{\pi}{2}, \frac{3\pi}{2}$

## מציאת נקודות קיצון:

### שאלות:

14 מצא את נקודות הקיצון של הפונקציה:  $f(x) = \sin x + \cos x$  בתחום:  $[0, 2\pi]$ .

15 מצא את נקודות הקיצון של הפונקציה:  $f(x) = \sin x - \frac{x}{2}$  בתחום:  $[0, 2\pi]$ .

16 מצא את נקודות הקיצון המוחלטות של הפונקציה:  $f(x) = \frac{\sin x + 1}{\sin x - 1}$  בתחום:  $[0, 2\pi]$ .

17 מצא את נקודות הקיצון המוחלטות של הפונקציה:  $f(x) = \frac{1}{5} \sin^5 x - \frac{1}{3} \sin^3 x - 2 \sin x$  בתחום:  $[0, 1.5\pi]$ .

18 לפונקציה:  $f(x) = a \sin x + b \sin^3 x$  (פרמטרים  $a, b$ ) יש נקודת קיצון ששיעורה  $\left(\frac{7\pi}{6}, -1\right)$ . מצא את ערכי הפרמטרים  $a$  ו- $b$ .

### תשובות סופיות:

14 קצה  $\max(2\pi, 1)$ ,  $\min\left(\frac{5}{4}\pi, -\sqrt{2}\right)$ ,  $\max\left(\frac{\pi}{4}, \sqrt{2}\right)$ , קצה  $\min(0, 1)$

15 קצה  $\max(2\pi, -\pi)$ ,  $\min\left(\frac{5}{3}\pi, -\frac{\sqrt{3}}{2} - \frac{5}{6}\pi\right)$ ,  $\max\left(\frac{\pi}{3}, \frac{\sqrt{3}}{2} - \frac{\pi}{6}\right)$ , קצה  $\min(0, 0)$

16 קצה  $\min(2\pi, -1)$ , קצה  $(0, -1)$ , קצה  $\max\left(\frac{3}{2}\pi, 0\right)$  מוחלט.

17  $\max\left(\frac{3}{2}\pi, 2\frac{2}{15}\right)$ ,  $\min\left(\frac{\pi}{2}, -2\frac{2}{15}\right)$

18  $b = -4$ ,  $a = 3$

## מציאת אסימפטוטות המקבילות לצירים:

שאלות:

(19) מצא את האסימפטוטות האנכיות לפונקציה:  $f(x) = \frac{1}{\sin 3x}$  בתחום:  $[0, \pi]$ .

(20) מצא את האסימפטוטות האנכיות לפונקציה:  $f(x) = \frac{1}{\sin x} - \frac{1}{\cos x}$  בתחום:  $[0, \pi]$ .

(21) מצא את האסימפטוטות האנכיות לפונקציה:  $f(x) = \tan x$  בתחום:  $[-\pi, \pi]$ .

תשובות סופיות:

(19)  $x = 0, x = \frac{\pi}{3}, x = \frac{2\pi}{3}, x = \pi$

(20)  $x = 0, x = \frac{\pi}{2}, x = \pi$

(21)  $x = \frac{\pi}{2}, x = -\frac{\pi}{2}$

## מציאת נקודות פיתול ותחומי קעירות:

שאלות:

22 מצא את נקודות הפיתול ואת תחומי הקעירות כלפי מעלה ומטה של הפונקציה  $f(x) = \sin^2 x - 2\sin x$  בתחום  $[0, 2\pi]$ .

תשובות סופיות:

22 נקודות פיתול:  $\left(\frac{7}{6}\pi, 1\frac{1}{4}\right), \left(\frac{11}{6}\pi, 1\frac{1}{4}\right)$ , קעור מעלה:  $0 < x < \frac{7}{6}\pi, \frac{11}{6}\pi < x < 2\pi$   
 קעור מטה:  $\frac{7}{6}\pi < x < \frac{11}{6}\pi$

## חקירת פונקציה טריגונומטרית:

### שאלות:

23) נתונה הפונקציה:  $f(x) = x + 2\cos x$  בתחום  $[0, 2\pi]$ .

חקור לפי הסעיפים הבאים:

- מציאת תחום ההגדרה של הפונקציה.
- מציאת נקודות הקיצון של גרף הפונקציה.
- תחומי עלייה וירידה של גרף הפונקציה.
- מציאת נקודת החיתוך של גרף הפונקציה עם ציר ה- $y$ .
- מציאת אסימפטוטות המקבילות לצירים.
- מציאת נקודות פיתול.
- מציאת תחומי הקעירות כלפי מעלה וכלפי מטה של הפונקציה.
- סרטוט סקיצה של גרף הפונקציה.

24) נתונה הפונקציה:  $f(x) = \frac{1}{\sin x} + \frac{1}{\cos x}$  בתחום  $[0, \pi]$ .

חקור לפי הסעיפים הבאים:

- מציאת תחום ההגדרה של הפונקציה.
- מציאת נקודות הקיצון של גרף הפונקציה.
- תחומי עלייה וירידה של גרף הפונקציה.
- מציאת נקודת החיתוך של גרף הפונקציה עם ציר ה- $x$  בתחום הנתון.
- מציאת אסימפטוטות המקבילות לצירים.
- סרטוט סקיצה של גרף הפונקציה.

25) נתונה הפונקציה:  $f(x) = 4\sin 2x - 2$  בתחום  $0 \leq x \leq \pi$ .

- מצא את נקודות החיתוך של הפונקציה עם הצירים בתחום הנתון.
- מצא את נקודות הקיצון של הפונקציה בתחום הנתון וקבע את סוגן.
- סרטוט סקיצה של גרף הפונקציה.
- מעבירים את הישר  $y = k$  היעזר בסקיצה ומצא לאילו ערכי  $k$  הישר יחתוך את גרף הפונקציה בשתי נקודות בדיוק.
- העבירו ישר המשיק לפונקציה בנקודת המקסימום המוחלט שלה. כמו כן העבירו מנקודה זו אנך לציר  $x$ . מצא את שטח המלבן הנוצר על ידי הצירים, המשיק והאנך.

**(26)** נתונה הפונקציה:  $f(x) = \cos^2 x - \cos x - 2$  בתחום:  $0 \leq x \leq 2\pi$ .

- מצא את נקודות החיתוך של גרף הפונקציה עם הצירים.
- מצא את נקודות הקיצון של גרף הפונקציה וקבע את סוגן.
- כתוב את תחומי העלייה והירידה של הפונקציה.
- סרטט סקיצה של גרף הפונקציה.

**(27)** נתונה הפונקציה:  $f(x) = \cos x + \frac{1}{m} \sin mx$ ,  $1 < m < 3$ , ( $m$  פרמטר).

הנגזרת של הפונקציה מתאפסת כאשר:  $x = -\frac{\pi}{2}$ .

- מצא את ערך הפרמטר  $m$ .
- האם הנקודה שבה:  $x = -\frac{\pi}{2}$  היא נקודת קיצון? אם כן קבע את סוגה. אם לא נמק מדוע.
- מצא כמה נקודות קיצון מקומיות יש לגרף הפונקציה בתחום:  $0 < x < 2\pi$ .
- מצא את נקודות החיתוך של גרף הפונקציה עם ציר ה- $x$  בתחום הנתון.

**(28)** נתונה הפונקציה הבאה:  $y = \cos x \cdot (\sin x + 1)$  בתחום:  $0 \leq x \leq 1.5\pi$ .

- מצא את נקודות החיתוך של גרף הפונקציה עם הצירים.
- מצא את נקודות הקיצון של גרף הפונקציה.
- סרטט סקיצה של גרף הפונקציה.
- כמה פתרונות יש למשוואה:  $\cos x \cdot (\sin x + 1) = 1$  בתחום הנתון?

**(29)** נתונה הפונקציה:  $f(x) = \sin^2 x + \cos x - 1$ .

- מצא בתחום  $[0, \pi]$  את נקודות החיתוך עם הצירים של הפונקציה ואת נקודות הקיצון שלה.
- הוכח שהפונקציה זוגית.
- שרטט את הפונקציה בתחום  $[-\pi, \pi]$ .

**(30)** נתונה הפונקציה:  $f(x) = 4x - 3 \tan x$  בתחום  $\left[-\frac{\pi}{6}, \frac{2\pi}{3}\right]$ .

חקור את הפונקציה על פי הסעיפים הבאים:

- מציאת תחום ההגדרה של הפונקציה.
- מציאת נקודות הקיצון של גרף הפונקציה.
- תחומי עלייה וירידה של גרף הפונקציה.
- מציאת נקודת החיתוך של גרף הפונקציה עם ציר ה- $y$ .
- מציאת אסימפטוטות אנכיות.
- מציאת נקודות פיתול.
- מציאת תחומי קעירות כלפי מעלה ומטה.
- סרטוט סקיצה של גרף הפונקציה.

**(31)** נתונה הפונקציה:  $f(x) = \tan 2x - 8 \sin 2x$  בתחום:  $-0.25\pi < x < 0.25\pi$ .

- מצא את נקודות החיתוך של גרף הפונקציה עם הצירים בתחום הנתון.
- כתוב את האסימפטוטות האנכיות של גרף הפונקציה.
- מצא את נקודות הקיצון של גרף הפונקציה בתחום הנתון.
- סרטט סקיצה של גרף הפונקציה בתחום הנתון.

**(32)** נתונה הפונקציה:  $f(x) = \tan(x^2 - 4x)$  בתחום  $[0, 4]$ .

חקור את הפונקציה על פי הסעיפים הבאים:

- מציאת תחום ההגדרה של הפונקציה.
- מציאת נקודות הקיצון של גרף הפונקציה.
- סרטוט סקיצה של גרף הפונקציה.

**(33)** נתונה הפונקציה:  $f(x) = x \cos x - x$  בתחום:  $-3\pi \leq x \leq 3\pi$ .

- מצא את נקודות החיתוך של גרף הפונקציה עם ציר ה- $x$ .
- ענה על הסעיפים הבאים:

i. הראה כי נקודות החיתוך של גרף הפונקציה עם ציר ה- $x$  הנגזרת של הפונקציה מתאפסת.

- ii. ידוע גם כי:  $f'(-3.67) = 0$ ,  $f'(3.67) = 0$  וכי אין נקודות נוספות בתחום הנתון שבהן הנגזרת מתאפסת. קבע אלו נקודות, מבין נקודות החיתוך שמצאת, הן נקודות קיצון ואלו אינן נקודות קיצון. מצא את סוג הקיצון בכל מקרה.

**(34)** נתונה הפונקציה:  $y = (\cos x + k)^2$ , פרמטר, בתחום:  $0 \leq x \leq 2\pi$ .

הפונקציה חותכת את ציר ה- $x$  בנקודה שבה  $x = \frac{2\pi}{3}$ .

- מצא את  $k$  וכתוב את הפונקציה.
- מצא את נקודת המקסימום שאיננה מוחלטת בתחום הנתון.
- האם יש לגרף הפונקציה נקודות מינימום שאינן מוחלטות? אם כן מהן?

**(35)** נתונה הפונקציה:  $f(x) = m \sin x + k \cos^2 x$ , ( $m$  פרמטר).

מעבירים משיק לגרף הפונקציה בנקודה שבה  $x = \pi$  שמשוואתו:  $y = -6x + 6\pi + \sqrt{7}$ .

- מצא את ערכי הפרמטרים  $k$  ו- $m$ .
- מצא את נקודות הקיצון בתחום:  $-0.5\pi \leq x \leq 1.5\pi$ .
- סרטט סקיצה של גרף הפונקציה וקבע עפ"י הסקיצה בכמה נקודות גרף הפונקציה חותך את ציר ה- $x$  בתחום הנ"ל.

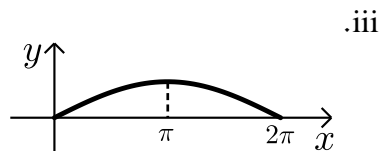
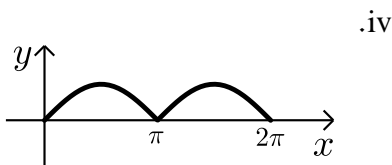
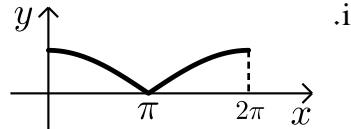
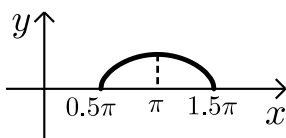
**(36)** נתונה הפונקציה:  $f(x) = \tan x + kx$ , ( $k$  פרמטר) בתחום:  $0 \leq x \leq \pi$ .

- מצא את האסימפטוטה האנכית של הפונקציה בתחום הנתון.
- הפונקציה:  $g(x) = \tan^2 x + kx$  חותכת את הפונקציה  $f(x)$  בשתי נקודות החיתוך שלה עם ציר ה- $x$  בתחום הנתון.
- מצא את ערך הפרמטר  $k$ , ( $k \neq 0$ ).
- מצא את נקודות הקיצון של הפונקציה  $f(x)$  בתחום הנתון וקבע את סוגן.
- סרטט סקיצה של גרף הפונקציה  $f(x)$ .

37) לפניך הפונקציות הבאות:  $f(x) = \sqrt{-\cos x}$ ,  $g(x) = \sqrt{\cos x + 1}$ .

הפונקציה  $f(x)$  מוגדרת בתחום  $0.5\pi \leq x \leq 1.5\pi$  והפונקציה  $g(x)$  מוגדרת בתחום  $0 \leq x \leq 2\pi$ .

- א. האם הגרפים חותכים את ציר ה- $x$  בתחום הנתון? הראה חישוב מתאים.  
 ב. האם הגרפים חותכים זה את זה בתחום הנתון? אם כן מצא את נקודות החיתוך.  
 ג. מצא את נקודת הקיצון של הפונקציה  $f(x)$  בתחום הנתון וקבע את סוגה.  
 ד. לפניך ארבעה איורים: i, ii, iii, iv.  
 קבע על סמך הסעיפים הקודמים איזה איור מתאר את הגרף של  $f(x)$  ואיזה מתאר את הגרף של  $g(x)$ . נמק.



**תשובות סופיות:**

23 א.  $0 \leq x \leq 2\pi$ .

ב.  $\max(2\pi, 2\pi + 2)$  קצה,  $\min\left(\frac{\pi}{6}, \frac{\pi}{6} + \sqrt{3}\right)$ ,  $\min\left(\frac{5}{6}\pi, \frac{5}{6}\pi - \sqrt{3}\right)$  קצה,  $\min(0, 2)$  קצה.

ג. תחומי עלייה:  $\frac{5\pi}{6} < x < 2\pi$  או  $0 < x < \frac{\pi}{6}$ , תחומי ירידה:  $\frac{\pi}{6} < x < \frac{5}{6}\pi$ .

ד.  $(0, 2)$ . ה. אין. ו.  $\left(\frac{\pi}{2}, \frac{\pi}{2}\right), \left(\frac{3\pi}{2}, \frac{3\pi}{2}\right)$ .

ז. קעירות כלפי מעלה:  $\frac{\pi}{2} < x < \frac{3}{2}\pi$ , קעירות כלפי מטה:  $\frac{3\pi}{2} < x < 2\pi$  או  $0 < x < \frac{\pi}{2}$ .

24 א.  $0 < x < \frac{\pi}{2}; \frac{\pi}{2} < x < \pi$ . ב.  $\min\left(\frac{\pi}{4}, 2\sqrt{2}\right)$ .

ג. תחומי עלייה:  $\frac{\pi}{2} < x < \pi, \frac{\pi}{4} < x < \frac{\pi}{2}$ , תחומי ירידה:  $0 < x < \frac{\pi}{4}$ .

ד.  $\left(\frac{3}{4}\pi, 0\right)$ . ה. אנכית:  $x = \pi, x = \frac{\pi}{2}, x = 0$ .

25 א.  $(0, -2), \left(\frac{\pi}{12}, 0\right), \left(\frac{5}{12}\pi, 0\right)$ .

ב.  $\min(0, -2), \max\left(\frac{\pi}{4}, 2\right), \min\left(\frac{3\pi}{4}, -6\right), \max(\pi, -2)$ .

ד.  $-6 < k < 2$  וגם  $k \neq -2$ . ה.  $\frac{\pi}{2}$ .

26 א.  $(\pi, 0), (0, -2)$ .

ב.  $\max(0, -2), \min\left(\frac{\pi}{3}, -2.25\right), \max(\pi, 0), \min\left(1\frac{2}{3}\pi, -2.25\right), \max(2\pi, -2)$ .

ג. עולה:  $\frac{\pi}{3} < x < \pi, 1\frac{2}{3}\pi < x < 2\pi$ , יורדת:  $\pi < x < 1\frac{2}{3}\pi, 0 < x < \frac{\pi}{3}$ .

27 א.  $m = 2$ . ב. נקודת פיתול. ג. 2 נקודות.

ד.  $(0.5\pi, 0), (1.5\pi, 0)$ .

28 א.  $(0, 1), \left(\frac{\pi}{2}, 0\right), \left(\frac{3\pi}{2}, 0\right)$ . ב.  $(0, 1), \left(\frac{\pi}{6}, 1.29\right), \left(\frac{5}{6}\pi, -1.29\right), (1.5\pi, 0)$ .

ד. 2 פתרונות.

29 א. חיתוך:  $(0, 0), \left(\frac{\pi}{2}, 0\right)$ , קיצון:  $\min(\pi, -2)$ , קצה:  $\min(0, 0), \max\left(\frac{\pi}{3}, \frac{1}{4}\right)$ .

$$(30) \text{ א. } -\frac{\pi}{6} \leq x \leq \frac{2}{3}\pi \text{ וגם } x \neq \frac{\pi}{2}$$

$$\text{ב. קצה } \min\left(\frac{2}{3}\pi, 13.57\right), \max\left(\frac{\pi}{6}, 0.36\right), \text{ קצה } \min\left(-\frac{\pi}{6}, -0.36\right)$$

$$\text{ג. תחומי עלייה: } -\frac{\pi}{6} \leq x \leq \frac{\pi}{6}, \text{ תחומי ירידה: } \frac{\pi}{6} \leq x \leq \frac{2}{3}\pi \text{ וגם } x \neq \frac{\pi}{2}$$

$$\text{ד. } (0,0) \quad \text{ה. אנכית: } x = \frac{\pi}{2} \quad \text{ו. } (0,0)$$

$$\text{ז. קעירות כלפי מעלה: } \frac{\pi}{2} \leq x \leq \frac{2}{3}\pi \text{ או } -\frac{\pi}{6} \leq x \leq 0, \text{ קעירות כלפי מטה: } 0 < x < \frac{\pi}{2}$$

$$(31) \text{ א. } (0,0), (\pm 0.23\pi, 0) \quad \text{ב. } x = \pm 0.25\pi \quad \text{ג. } \min\left(\frac{\pi}{6}, -\sqrt{27}\right), \max\left(-\frac{\pi}{6}, \sqrt{27}\right)$$

$$(32) \text{ א. } 0 \leq x \leq 4 \text{ וגם } x \neq 0.44, x \neq 3.56$$

$$\text{ב. קצה } \max(0,0), \min(2, -1.16), \max(4,0)$$

$$(33) \text{ א. } (0,0), (2\pi,0), (-2\pi,0)$$

$$\text{ב. ii. } \min(-2\pi,0), \max(2\pi,0), (0,0) \text{ פיתול}$$

$$(34) \text{ א. } y = (\cos x + 0.5)^2, k = 0.5 \quad \text{ב. } (\pi, 0.25) \quad \text{ג. לא}$$

$$(35) \text{ א. } m = 6, k = \sqrt{7} \quad \text{ב. } (-0.5\pi, -6), (0.5\pi, 6), (1.5\pi, -6) \quad \text{ג. בשתי נקודות}$$

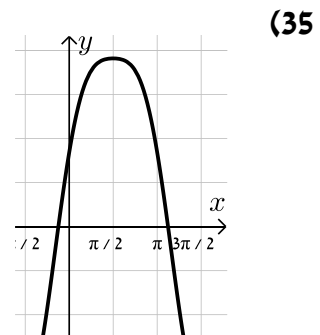
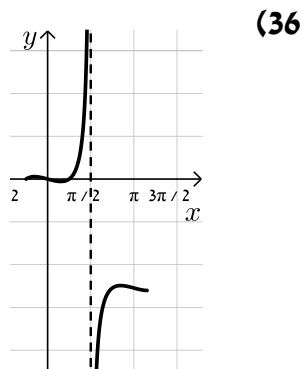
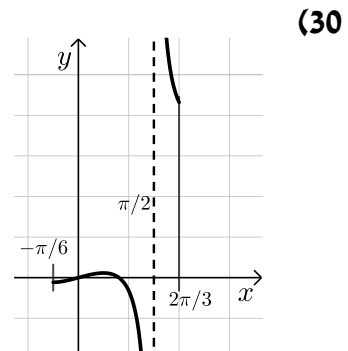
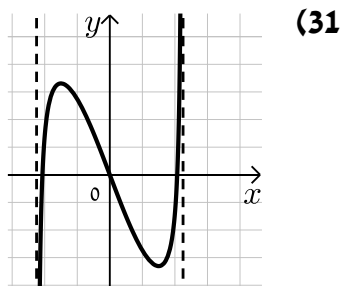
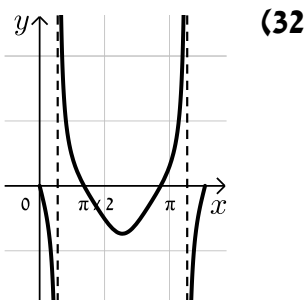
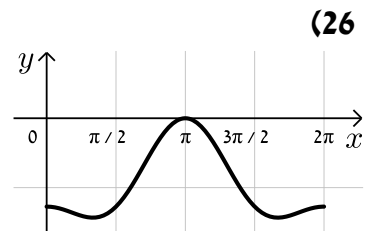
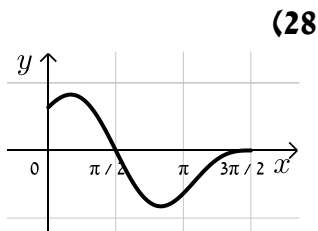
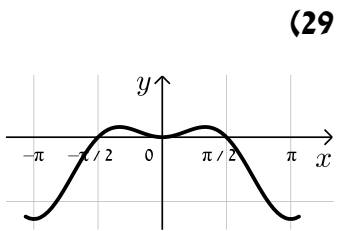
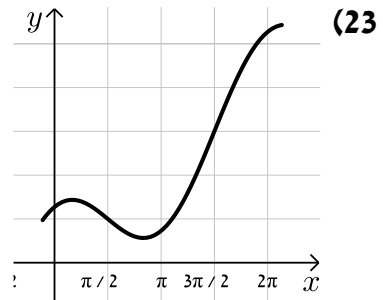
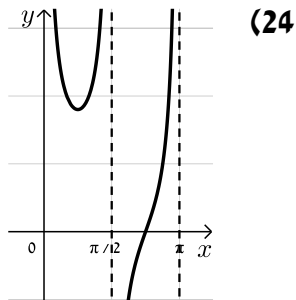
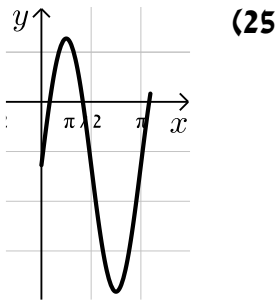
$$(36) \text{ א. } x = 0.5\pi \quad \text{ב. } k = -\frac{4}{\pi} \approx -1.27$$

$$\text{ג. } \max(0,0), \min(0.15\pi, -0.07), \max(0.84\pi, -3.9), \min(\pi, -4)$$

$$(37) \text{ א. כן. } f(x): (0.5\pi, 0), (1.5\pi, 0), g(x): (\pi, 0) \quad \text{ב. כן, } \left(\frac{2}{3}\pi, \frac{1}{\sqrt{2}}\right), \left(\frac{4}{3}\pi, \frac{1}{\sqrt{2}}\right)$$

$$\text{ג. } \max(0.5\pi, 0), \min(1.5\pi, 0), \max(\pi, 1) \quad \text{ד. איור I - } g(x), \text{ איור II - } f(x)$$

סקיצות לשאלות החקירה:



# קורס מתמטיקה להנדסאי טכנולוגיות מים

פרק 27 - חשבון דיפרנציאלי - פונקציות מעריכיות

תוכן העניינים

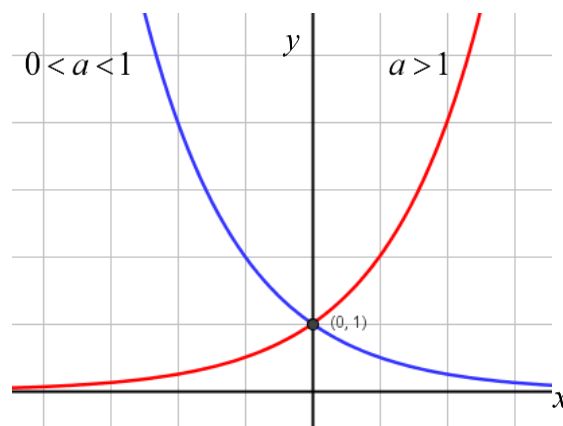
- 430 ..... 1. הנגזרת של פונקציה מעריכית
- 434 ..... 2. שימושי הנגזרת
- 435 ..... 3. חקירה של פונקציה מעריכית

## הנגזרת של פונקציה מעריכית:

**סיכום כללי:**

**הגדרות כלליות:**

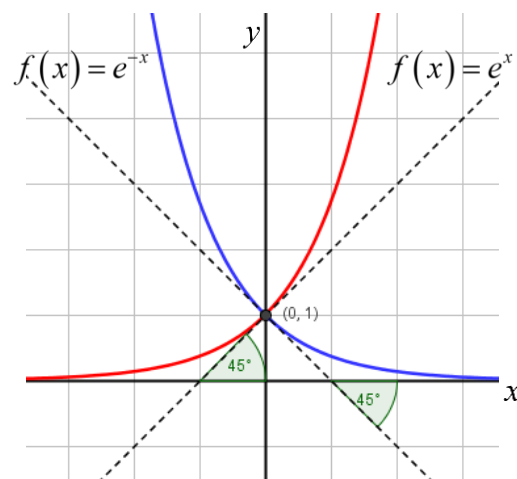
להלן תיאורים גרפיים של פונקציה מעריכית כללית מהצורה:  $f(x) = a^x$   
 עבור:  $a > 1$  ו-  $0 < a < 1$ :



**תכונות כלליות:**

1. הפונקציות מוגדרות לכל  $x$ .
2. הפונקציות תמיד חיוביות.
3. הפונקציות תמיד חותכות את ציר ה- $y$  בנקודה:  $(0, 1)$ .
4. עבור:  $a > 1$  הפונקציה עולה בכל ת.ה. ועבור:  $0 < a < 1$  הפונקציה יורדת בכל ת.ה.

עבור הפונקציות  $f(x) = e^x$  ו-  $f(x) = e^{-x}$  נקבל:



**תכונות נוספות:**

1. שיפוע המשיק לגרף הפונקציה  $f(x) = e^x$  בנקודת החיתוך עם ציר ה- $y$  הוא 1.
2. שיפוע המשיק לגרף הפונקציה  $f(x) = e^{-x}$  בנקודת החיתוך עם ציר ה- $y$  הוא -1.

**נגזרות של פונקציות מעריכיות:**

הפונקציה	הנגזרת
$y = a^x$	$y' = a^x \cdot \ln a$
$y = a^{f(x)}$	$y' = a^{f(x)} \cdot f'(x) \cdot \ln a$
$y = e^x$	$y' = e^x$
$y = e^{f(x)}$	$y' = e^{f(x)} \cdot f'(x)$

**תזכורת - כללי הגזירה:**

מספר כלל	הפונקציה	תיאור	הנגזרת
1.	$y = a \cdot f(x)$	מכפלה בקבוע	$y' = a \cdot f'(x)$
2.	$y = f(x) + g(x)$	סכום פונקציות	$y' = f'(x) + g'(x)$
3.	$y = f(x) \cdot g(x)$	מכפלת פונקציות	$y' = f'(x) \cdot g(x) + f(x) \cdot g'(x)$
4.	$y = \frac{f(x)}{g(x)}$	מנת פונקציות	$y' = \frac{f'(x) \cdot g(x) - f(x) \cdot g'(x)}{(g(x))^2}$
5.	$y = f(g(x))$	פונקציה מורכבת	$y' = f'(g(x)) \cdot g'(x)$

**שאלות:**

(1) גזור את הפונקציות הבאות (סכום פונקציות):

א.  $f(x) = 3e^x + e^{2x} + e^{-x} + 2x + 1$  .ב.  $f(x) = e^{x^2-3x} + ex$  .ג.  $f(x) = 2^{3x}$  .ד.  $f(x) = 3^{x^2} + 4^{-x}$

(2) גזור את הפונקציות הבאות (מכפלת פונקציות):

א.  $f(x) = x \cdot e^x$  .ב.  $f(x) = x^2 \cdot e^{4x}$  .ג.  $f(x) = (x+1) \cdot 2^x$

(3) גזור את הפונקציות הבאות (מנת פונקציות):

א.  $f(x) = \frac{x^2}{e^x}$  .ב.  $f(x) = \frac{e^x}{e^x + 1}$

(4) גזור את הפונקציות הבאות (פונקציה מורכבת):

א.  $f(x) = 5(e^{2x} - 1)^3$  .ב.  $f(x) = \sqrt{e^{2x} + e^{-2x}}$  .ג.  $f(x) = \frac{e^{3x}}{\sqrt{e^x + 1}}$

(5) גזור את הפונקציות הבאות (שאלות שונות):

א.  $f(x) = e^{2x}$  .ב.  $f(x) = e^x + 1$   
 ג.  $f(x) = e^{\frac{1}{x}}$  .ד.  $f(x) = (x^2 + 1)e^x$   
 ה.  $f(x) = e^{-x}(x^2 + 4x + 1)$  .ו.  $f(x) = e^{3x-2}$   
 ז.  $f(x) = e^x \cdot \frac{1}{x}$  .ח.  $f(x) = x^3 e^{2x}$   
 ט.  $f(x) = e^{-2x}(x+4)$  .י.  $f(x) = e^{2x+1}(1-x)$   
 יא.  $f(x) = \frac{1}{\frac{1}{e^x}}$  .יב.  $f(x) = \frac{x^3}{e^{3x}}$   
 יג.  $f(x) = \frac{2+x^2}{e^{x^2}}$  .יד.  $f(x) = \frac{e^x - e^{-x}}{e^{-x} + e^x}$   
 יו.  $f(x) = \frac{x^2+1}{e^{-x}}$  .יז.  $f(x) = \frac{e^x}{1-e^{x+1}}$

## תשובות סופיות:

$$(1) \quad \text{א. } 3e^x + 2e^{2x} - e^{-x} + 2 \quad \text{ב. } (2x-3)e^{x^2-3x} + e \quad \text{ג. } 3\ln 2 \cdot 2^{3x} \quad \text{ד. } 2x \ln 3 \cdot 3^{x^2} - \ln 4 \cdot 4^{-x}$$

$$(2) \quad \text{א. } (1+x)e^x \quad \text{ב. } 2xe^{4x}(1+2x) \quad \text{ג. } 2^x(1+x\ln 2 + \ln 2)$$

$$(3) \quad \text{א. } \frac{x(2-x)}{e^x} \quad \text{ב. } \frac{e^x}{(e^x+1)^2}$$

$$(4) \quad \text{א. } 30e^{2x}(e^{2x}-1)^2 \quad \text{ב. } \frac{e^{2x}-e^{-2x}}{\sqrt{e^{2x}+e^{-2x}}} \quad \text{ג. } \frac{5e^{4x}+6e^{3x}}{2\sqrt{(e^x+1)^3}}$$

$$(5) \quad \text{א. } 2e^{2x} \quad \text{ב. } e^x \quad \text{ג. } -\frac{e^{1/x}}{x^2} \quad \text{ד. } (x+1)^2 e^x$$

$$\text{ה. } e^{-x}(-x^2-2x+3) \quad \text{ו. } 3e^{3x-2}$$

$$\text{ז. } \frac{e^x(x-1)}{x^2} \quad \text{ח. } x^2 e^{2x}(3+2x) \quad \text{ט. } -e^{-2x}(2x+7)$$

$$\text{י. } e^{2x+1}(1-2x)$$

$$\text{יא. } \frac{e^{-1/x}}{x^2} \quad \text{יב. } \frac{3x^2(1-x)}{e^{3x}} \quad \text{יג. } \frac{-2x(x^2+1)}{e^{x^2}}$$

$$\text{יד. } \frac{4}{(e^x+e^{-x})^2} \quad \text{טו. } \frac{(x+1)^2}{e^{-x}} \quad \text{טז. } \frac{e^x}{(1-e^{x+1})^2}$$

## שימושי הנגזרת:

### שאלות:

- (6) מצא את משוואת המשיק לפונקציה  $f(x) = e^x$  בנקודה  $A(1, e)$ .
- (7) מצא את משוואת המשיק לפונקציה  $f(x) = e^{2x} + xe^{-x}$  בנקודה שבה  $x = 0$ .
- (8) מצא את משוואות המשיקים לפונקציה  $f(x) = (e+1)e^x - e^{2x}$  בנקודות החיתוך של הפונקציה עם הישר  $y = e$ .
- (9) נתונה הפונקציה:  $y = e^{2x} + 3ex$ .  
 לפונקציה העבירו משיק דרך הנקודה שבה:  $x = 2$ .  
 מצא את משוואת המשיק.
- (10) שיפוע המשיק לפונקציה  $f(x) = a \cdot 3^{2x-1} + 3^{x-b}$  בנקודה  $(1, 15)$  הוא  $21 \ln 3$ .  
 מצא את ערכי הפרמטרים  $a$  ו- $b$ .

### תשובות סופיות:

- (6)  $y = ex$
- (7)  $y = 3x + 1$
- (8)  $y = (-e^2 + e)x + e^2$ ,  $y = (e-1)x + e$
- (9)  $y = 2e^4x + 3ex - 3e^4$
- (10)  $b = -1$ ,  $a = 2$

## חקירה של פונקציה מעריכית:

### שאלות:

(11) מצא את תחום ההגדרה של הפונקציות הבאות:

$$\begin{array}{lll}
 \text{א. } f(x) = \frac{2x-1}{e^x} & \text{ב. } f(x) = \frac{3}{e^x-1} & \text{ג. } f(x) = \frac{x+1}{e^x-5} \\
 \text{ד. } f(x) = \frac{1}{e^{2x}-3e^x+2} & \text{ה. } f(x) = \frac{e^x-e^{-x}}{e^x+e^x} & \text{ו. } f(x) = \frac{\sqrt{e^x-1}}{5x-2} \\
 \text{ז. } f(x) = \sqrt{e^{2x}-4e^x+3} & & 
 \end{array}$$

(12) מצא את נקודות הקיצון של הפונקציה הבאה:  $f(x) = x^2e^x$ .

(13) מצא את נקודת הקיצון של הפונקציה הבאה:  $f(x) = \frac{e^x}{x-2}$ .

(14) נתונה הפונקציה:  $f(x) = \frac{ax^2+bx+9}{e^x}$ .

הפונקציה משיקה לציר ה- $x$  בנקודה שבה  $x = 1.5$ . מצא את ערכי הפרמטרים  $a$  ו- $b$  ואת נקודות הקיצון של הפונקציה.

(15) נתונה הפונקציה:  $f(x) = 8^x + p \cdot 2^x + q$ . לפונקציה יש נקודת קיצון בנקודה  $(\log_2 3, -19)$ . מצא את ערכי הפרמטרים  $p$  ו- $q$ .

(16) מצא את האסימפטוטות של הפונקציה הבאה:  $f(x) = e^{2x} + e^x$ .

(17) מצא את האסימפטוטות של הפונקציה הבאה:  $f(x) = \frac{e^x + e^{-x}}{e^{2x}}$ .

(18) מצא את האסימפטוטות של הפונקציה הבאה:  $f(x) = \frac{e^x + 5}{e^x - 1}$ .

(19) מצא את האסימפטוטות של הפונקציה הבאה:  $f(x) = \frac{e^{2x} + 1}{e^x - 5}$

(20) מצא את האסימפטוטות של הפונקציה הבאה:  $f(x) = \frac{e^x - e^{-x}}{e^x + e^{-x}}$

(21) מצא את האסימפטוטות של הפונקציה הבאה:  $f(x) = \frac{e^x - 2}{e^{2x} - 5e^x + 6}$

(22) מצא את האסימפטוטות של הפונקציה הבאה:  $f(x) = \frac{e^x}{x^2}$

(23) מצא את האסימפטוטות של הפונקציה הבאה:  $f(x) = \frac{x^3 - 1}{e^x}$

(24) מצא את האסימפטוטות של הפונקציה הבאה:  $f(x) = \frac{x-1}{e^{3x} - e}$

(25) מצא את האסימפטוטות של הפונקציה הבאה:  $f(x) = (x-3)e^x$

(26) מצא את האסימפטוטות של הפונקציה הבאה:  $f(x) = xe^{\frac{1}{x}}$

(27) נתונה הפונקציה:  $f(x) = \frac{x^2 + a}{be^x}$ . לפונקציה יש נקודת פיתול בנקודה  $(1, \frac{2}{e})$ . מצא את ערכי הפרמטרים  $a$  ו- $b$  ואת נקודת הפיתול השנייה של הפונקציה.

**(28)** חקור את הפונקציות הבאות עפ"י הסעיפים הבאים:

1. מציאת תחום ההגדרה של הפונקציה.
2. מציאת נקודות החיתוך של גרף הפונקציה עם הצירים.
3. מציאת נקודות הקיצון של הפונקציה וקביעת סוגן.
4. כתיבת תחומי העלייה והירידה של הפונקציה.

$$f(x) = (x^2 + 1)e^x \quad \text{ב.} \qquad f(x) = (x-1)e^x \quad \text{א.}$$

$$f(x) = e^{x^2-x} \quad \text{ד.} \qquad f(x) = x^2 e^{-\frac{1}{4}x^2} \quad \text{ג.}$$

$$f(x) = \frac{e^{2x} + 1}{e^{x+1}} \quad \text{ו.} \qquad f(x) = \frac{2}{e^{x^2} + 1} \quad \text{ה.}$$

**(29)** נתונה הפונקציה  $f(x) = (x-3)e^x$ . חקור על פי הסעיפים הבאים:

- א. מציאת תחום ההגדרה של הפונקציה.
- ב. מציאת נקודות הקיצון של הפונקציה.
- ג. תחומי עלייה וירידה של הפונקציה.
- ד. נקודות חיתוך של גרף הפונקציה עם הצירים.
- ה. סרטוט סקיצה של גרף הפונקציה.

**(30)** נתונה הפונקציה  $f(x) = e^{2x} - 8e^x + 6x + 10$ . חקור על פי הסעיפים הבאים:

- א. מציאת תחום ההגדרה של הפונקציה.
- ב. מציאת נקודות הקיצון של הפונקציה.
- ג. תחומי עלייה וירידה של הפונקציה.
- ד. מציאת נקודת החיתוך של גרף הפונקציה עם ציר ה- $y$ .
- ה. סרטוט סקיצה של גרף הפונקציה.

**(31)** נתונה הפונקציה  $f(x) = \frac{4x}{e^{0.5x^2}}$ . חקור על פי הסעיפים הבאים:

- א. מציאת תחום ההגדרה של הפונקציה.
- ב. מציאת נקודות הקיצון של הפונקציה.
- ג. תחומי עלייה וירידה של הפונקציה.
- ד. נקודות חיתוך של גרף הפונקציה עם הצירים.
- ה. סרטוט סקיצה של גרף הפונקציה.

**(32)** נתונה הפונקציה  $f(x) = \frac{x^3}{e^x}$ . חקור על פי הסעיפים הבאים:

- א. מציאת תחום ההגדרה של הפונקציה.
- ב. מציאת נקודות הקיצון של הפונקציה.
- ג. תחומי עלייה וירידה של הפונקציה.
- ד. נקודות חיתוך של גרף הפונקציה עם הצירים.
- ה. סרטוט סקיצה של גרף הפונקציה.

**(33)** נתונה הפונקציה  $f(x) = 2x \cdot 3^x$ . חקור את הפונקציה על פי הסעיפים הבאים:

- א. מציאת תחום ההגדרה של הפונקציה.
- ב. מציאת נקודות הקיצון של הפונקציה.
- ג. תחומי עלייה וירידה של הפונקציה.
- ד. נקודות חיתוך של גרף הפונקציה עם הצירים.
- ה. סרטוט סקיצה של גרף הפונקציה.

**(34)** נתונה הפונקציה  $f(x) = 2e^{\frac{x}{x^2+1}}$ . חקור את הפונקציה על פי הסעיפים הבאים:

- א. מציאת תחום ההגדרה של הפונקציה.
- ב. מציאת נקודות הקיצון של הפונקציה.
- ג. תחומי עלייה וירידה של הפונקציה.
- ד. נקודות חיתוך של גרף הפונקציה עם הצירים.
- ה. מציאת אסימפטוטות המקבילות לצירים.
- ו. סרטוט סקיצה של גרף הפונקציה.
- ז. לאלו ערכי  $m$  יש למשוואה  $f(x) = m$  בדיוק פתרון אחד?

**(35)** נתונה הפונקציה  $f(x) = x^2 e^{\frac{1}{x}}$ . חקור את הפונקציה על פי הסעיפים הבאים:

- א. מציאת תחום ההגדרה של הפונקציה.
- ב. מציאת נקודות הקיצון של הפונקציה.
- ג. תחומי עלייה וירידה של הפונקציה.
- ד. נקודות חיתוך של גרף הפונקציה עם הצירים.
- ה. מציאת אסימפטוטות המקבילות לצירים.
- ו. מציאת נקודות פיתול של הפונקציה.
- ז. כתיבת תחומי הקעירות כלפי מעלה ומטה.

ח. סרטוט סקיצה של גרף הפונקציה.

$$(36) \text{ נתונה הפונקציה: } f(x) = \frac{e^{3x}}{12x^2 + 1}$$

- א. מצא את תחום ההגדרה של הפונקציה.
- ב. מצא את נקודות הקיצון של הפונקציה וקבע את סוגן.
- ג. כתוב את תחומי עלייה וירידה של הפונקציה.
- ד. מצא את נקודות חיתוך של גרף הפונקציה עם הצירים.
- ה. סרטוט סקיצה של גרף הפונקציה.

$$(37) \text{ שיפוע המשיק לגרף הפונקציה: } f(x) = \frac{1}{e^{3x^2+6x+k}} \text{ בנקודה שבה } x=1 \text{ הוא } -\frac{12}{e^{10}}$$

- א. מצא את ערך הפרמטר  $k$  וכתוב את הפונקציה.
- ב. מצא את נקודת הקיצון של הפונקציה.
- ג. סרטוט סקיצה של גרף הפונקציה.
- ד. הוכח על סמך הסקיצה את אי-השוויון הבא:  $0 < \frac{1}{e^{3x^2+6x+1}} \leq e^2$ .

$$(38) \text{ נתונה הפונקציה הבאה: } f(x) = e^{2x} + ae^x + b \text{ . גוזרים את הפונקציה פעמיים}$$

$$\text{וידוע כי כאשר } x = \ln \frac{2}{3} \text{ הנגזרות מקיימות: } f'(x) + f''(x) = 8$$

- א. מצא את  $a$ .
- משוואת המשיק לגרף הפונקציה בנקודה מסוימת היא:  $y = 16x + 7 - 16 \ln 2$ .
- ב. מצא את שיעור ה- $x$  של נקודת ההשקה.
- ג. מצא את  $b$ .
- ד. מצא את נקודת החיתוך של הפונקציה עם ציר ה- $x$ .

$$(39) \text{ נתונות הפונקציות הבאות: } f(x) = 6x - e^x \text{ ו- } g(x) = ae^x - e^{2x} + b$$

ידוע כי לשתי הפונקציות נקודת קיצון שבה אותו שיעור  $x$  וכי שתיהן נפגשות על ציר ה- $y$ .

- א. מצא את ערכי הפרמטרים  $a$  ו- $b$ .
- ב. הראה כי לשתי הפונקציות תחומי עלייה וירידה משותפים.

**40** לגרף הפונקציה:  $f(x) = ax^2 \cdot e^{-bx^2}$  יש נקודת קיצון:  $\left(2, \frac{4}{e}\right)$ ,  $a, b \neq 0$ .

- מצא את ערכי הפרמטרים  $a$  ו- $b$  וכתוב את הפונקציה.
- מצא את נקודות הקיצון הנוספות של הפונקציה וקבע את סוגן.
- מצא את נקודות החיתוך של הפונקציה עם הצירים.
- סרטט סקיצה של גרף הפונקציה.
- מעבירים ישר:  $y = k$ . באיזה תחום ערכים צריך להימצא  $k$  כדי שהישר יחתוך את גרף הפונקציה ב-4 נקודות שונות?

**41** לפונקציה:  $f(x) = \frac{x^2 - 6x - 7}{e^{ax-1}}$  יש קיצון בנקודה שבה:  $x = 1$ .

- מצא את ערך הפרמטר  $a$ .
- האם יש לגרף הפונקציה נקודות קיצון נוספות? אם כן מצא אותן.
- כתוב את תחומי העלייה והירידה של הפונקציה.
- מצא את נקודות החיתוך של גרף הפונקציה עם הצירים.
- סרטט סקיצה של גרף הפונקציה.

**42** הישר  $x = \sqrt{6}$  הוא אסימפטוטה אנכית של הפונקציה:  $f(x) = \frac{e^{2x}}{x^2 + m}$ .

- מצא את ערך הפרמטר  $m$  וכתוב את הפונקציה.
- מצא את נקודות הקיצון של הפונקציה וקבע את סוגן.
- מצא את נקודות החיתוך של גרף הפונקציה עם הצירים.
- סרטט סקיצה של גרף הפונקציה.

**43** נתונה הפונקציה:  $f(x) = x^3 \cdot e^{2x}$ .

- מצא את הנקודות המקיימות:  $f'(x) = 0$  וקבע כמה מהן הן נקודות קיצון.
- מצא את האסימפטוטות המקבילות לצירים של הפונקציה.
- סרטט סקיצה של גרף הפונקציה.
- בכמה נקודות חותך הישר  $y = -0.01$  את גרף הפונקציה?

44 נתונה הפונקציה הבאה:  $f(x) = e^{2x} + ae^x + b$ . גוזרים את הפונקציה פעמיים

$$f'(x) + f''(x) = 12 \text{ הנגזרות מקיימות: } x = \ln \frac{2}{3}$$

א. מצא את  $a$ .

משוואת המשיק לגרף הפונקציה בנקודה מסוימת היא:  $y = 22x + 28 - 22 \ln 2$ .

ב. מצא את שיעור ה- $x$  של נקודת ההשקה.

ג. מצא את  $b$ .

ד. האם הפונקציה חותכת את ציר ה- $x$ ? אם כן מצא את הנקודות.

45 נתונה הפונקציה:  $f(x) = x \cdot a^x$ ,  $(a > 0)$ .

$$\text{לפונקציה יש נקודת קיצון שבה: } x = -\frac{1}{\ln 2}$$

א. מצא את  $a$ .

ב. כתוב את תחומי העלייה והירידה של הפונקציה.

הנקודה שבה  $x = 2$  היא נקודת החיתוך של גרף הפונקציה  $f(x)$

$$\text{עם גרף הפונקציה: } g(x) = x^2 \cdot 2^x - kx \cdot 2^x$$

ג. מצא את  $k$ .

ד. מצא נקודה נוספת שבה הגרפים נחתכים.

46 נתונה הפונקציה:  $f(x) = 3^{2x} + 2 \cdot 3^{1-x}$ .

א. מצא את משוואת המשיק לגרף הפונקציה בנקודת החיתוך שלה

עם ציר ה- $y$ .

ב. הוכח כי גרף הפונקציה אינו חותך את ציר ה- $x$ .

ג. מצא את נקודת הקיצון של הפונקציה וקבע את סוגה.

## תשובות סופיות:

$$(11) \quad \text{א. כל } x \quad \text{ב. } x \neq 0 \quad \text{ג. } x \neq \ln 5 \quad \text{ד. } x \neq \ln 2, x \neq 0 \quad \text{ה. כל } x$$

$$\text{ו. } 0 \leq x \neq \frac{2}{5} \quad \text{ז. } x \leq 0, x \geq \ln 3$$

$$(12) \quad \min(0,0), \max\left(-2, \frac{4}{e^2}\right)$$

$$(13) \quad \min(3, e^3)$$

$$(14) \quad \min(1.5,0), \max(3.5,0.483), b=-12, a=4$$

$$(15) \quad p=-27, q=35$$

$$(16) \quad y=0$$

$$(17) \quad y=0$$

$$(18) \quad x=0, y=-5, y=1$$

$$(19) \quad x=\ln 5, y=-\frac{1}{5}$$

$$(20) \quad y=-1, y=1$$

$$(21) \quad \text{נקודת אי הגדרה: } (\ln 2, -1), x=\ln 3, y=-\frac{1}{3}, y=0$$

$$(22) \quad x=0, y=0$$

$$(23) \quad y=0$$

$$(24) \quad x=\frac{1}{3}, y=0$$

$$(25) \quad y=0$$

$$(26) \quad \text{נקודת אי הגדרה: } (0,0), x=0$$

$$(27) \quad \left(3, \frac{10}{e^3}\right), a=1, b=1$$

$$(28) \quad \text{א. כל } x \quad \text{ב. } (0,-1), (1,0) \quad \text{ג. } \min(0,-1) \quad \text{ד. עולה: } x>0 \quad \text{יורדת: } x<0$$

$$\text{ב. כל } x \quad \text{ג. } (0,1) \quad \text{ד. פיתול } \left(-1, \frac{2}{e}\right) \quad \text{ה. עולה: } x>-1, x<-1$$

$$\text{ג. כל } x \quad \text{ד. } (0,0) \quad \text{ה. } \max\left(2, \frac{4}{e}\right), \min(0,0), \max\left(-2, \frac{4}{e}\right)$$

$$\text{ו. עולה: } 0 < x < 2, x < -2 \quad \text{יורדת: } -2 < x < 0, x > 2$$

$$\text{ד. כל } x \quad \text{ה. } (0,1) \quad \text{ו. } \min(0.5, e^{-0.25}) \quad \text{ז. עולה: } x>0.5 \quad \text{יורדת: } x<0.5$$

- ה.1. כל  $x$  .2.  $(0,1)$  .3.  $\max(0,1)$  .4. עולה:  $x < 0$  יורדת:  $x > 0$
- ו.1. כל  $x$  .2.  $(0, 2e^{-1})$  .3.  $\min(0, 2e^{-1})$  .4. עולה:  $x > 0$  יורדת:  $x < 0$
- (29) א. כל  $x$  .ב.  $\min(2, -e^2)$  .ג. תחומי עלייה:  $x > 2$  תחומי ירידה:  $x < 2$
- ד.  $(3,0)$  ,  $(0,-3)$
- (30) א. כל  $x$  .ב.  $\max(0,3)$  ,  $\min(\ln 3, 1.59)$  .ג. תחומי עלייה:  $x > \ln 3$  או  $x < 0$  תחומי ירידה:  $0 < x < \ln 3$  .ד.  $(0,3)$
- (31) א. כל  $x$  .ב.  $\min\left(-1, -\frac{4}{e^{0.5}}\right)$  ,  $\max\left(1, \frac{4}{e^{0.5}}\right)$  .ג. תחומי עלייה:  $-1 < x < 1$  תחומי ירידה:  $x > 1$  או  $x < -1$  .ד.  $(0,0)$
- (32) א. כל  $x$  .ב.  $\max\left(3, \frac{27}{e^3}\right)$  .ג. עולה:  $x < 3$  , יורדת:  $x > 3$
- ד.  $(0,0)$
- (33) א. כל  $x$  .ב.  $\min(-0.91, -0.67)$  .ג. עולה:  $x > -0.91$  יורדת:  $x < -0.91$
- ד.  $(0,0)$
- (34) א. כל  $x$  .ב.  $\max(1, 2\sqrt{e})$  ,  $\min\left(-1, \frac{2}{\sqrt{e}}\right)$  .ג. עולה:  $-1 < x < 1$  יורדת:
- ד.  $(0,2)$  .ה.  $y = 2$  .ו.  $m = 2$  ,  $m = 2\sqrt{e}$  ,  $m = \frac{2}{\sqrt{e}}$
- (35) א.  $x \neq 0$  .ב.  $\min\left(\frac{1}{2}, \frac{e^2}{4}\right)$  .ג. עולה:  $x > \frac{1}{2}$  , יורדת:  $0 \neq x < \frac{1}{2}$
- ד. אין
- (36) א. כל  $x$  .ב.  $\max\left(\frac{1}{6}, \frac{3\sqrt{e}}{4}\right)$  ,  $\min\left(\frac{1}{2}, \frac{e^{1.5}}{4}\right)$  .ג. עולה:  $x > \frac{1}{2}$  ,  $x < \frac{1}{6}$  יורדת:
- ד.  $\frac{1}{6} < x < \frac{1}{2}$  .ד.  $(0,1)$
- (37) א.  $k = 1$  ,  $f(x) = \frac{1}{e^{3x^2+6x+1}}$  .ב.  $(-1, e^2)$
- ד. ניתן לראות עפ"י הגרף כי ערך הפונקציה  $f(x)$  נמצא בתחום  $0 < f(x) \leq e^2$
- (38) א.  $a = 4$  .ב.  $x = \ln 2$  .ג.  $b = -5$  .ד.  $(0,0)$
- (39) א.  $a = 12$  ,  $b = -12$  .ב. עולות:  $x < \ln 6$  יורדות:  $x > \ln 6$

א.  $f(x) = x^2 e^{-\frac{1}{4}x^2}$ ,  $a=1$ ,  $b=0.25$  (40)  
 ב.  $\max\left(-2, \frac{4}{e}\right)$ ,  $\min(0,0)$  ג.

ג.  $(0,0)$  ה.  $0 < k < \frac{4}{e}$

א.  $a = \frac{1}{3}$  (41)  
 ב. כן:  $\left(11, \frac{48}{e^{\frac{2}{3}}}\right)$  ג. עולה:  $1 < x < 11$  יורדת:  $x < 1, x > 11$

ד.  $(-1,0)$ ,  $(7,0)$ ,  $(0, -7e)$

א.  $f(x) = \frac{e^{2x}}{x^2 - 6}$ ,  $m = -6$  (42)  
 ב.  $\max\left(-2, -\frac{1}{2e^4}\right)$ ,  $\min\left(3, \frac{e^6}{3}\right)$  ג.  $\left(0, -\frac{1}{6}\right)$

א.  $x = 0, -1.5$ . נקודת הקיצון היא:  $\min\left(-1.5, -3\frac{3}{8}e^{-3}\right)$  (43)  
 ב.  $y = 0$

ד. 2 נקודות.

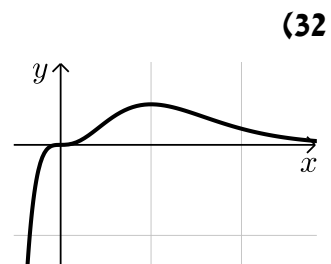
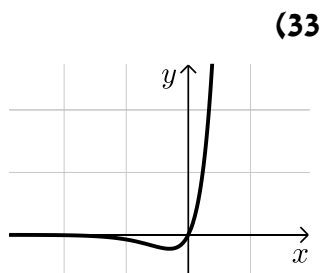
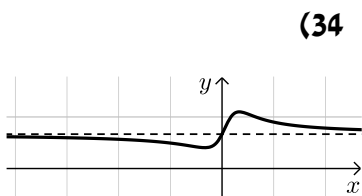
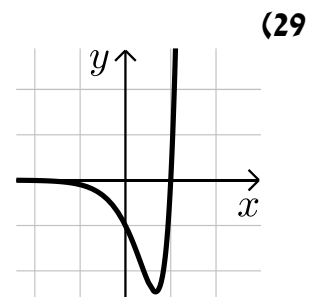
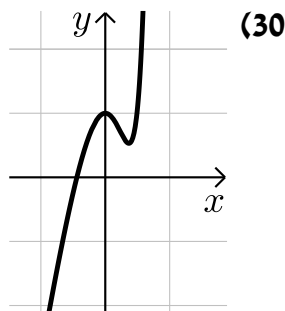
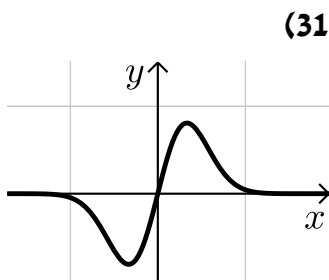
א.  $a = 7$  (44)  
 ב.  $x = \ln 2$  ג.  $b = 10$  ד. לא.

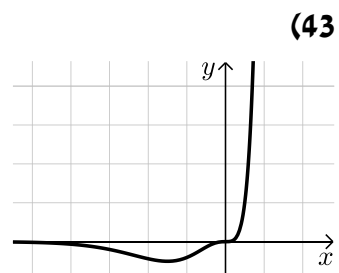
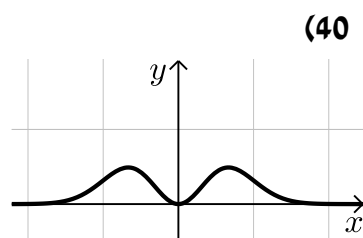
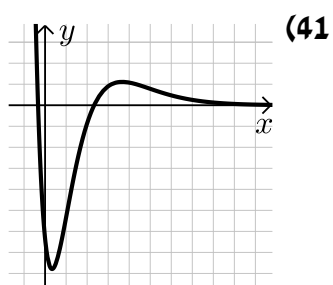
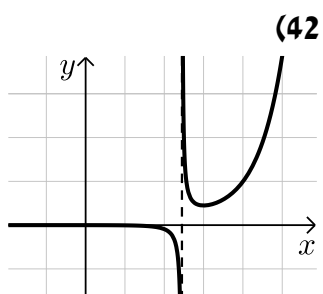
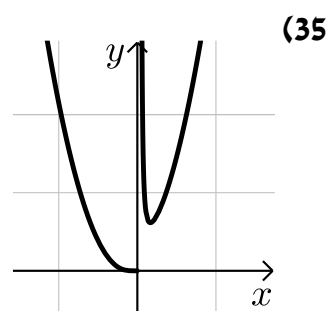
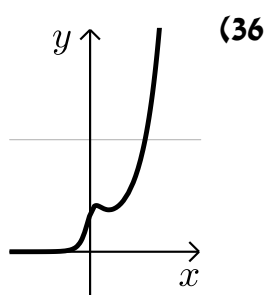
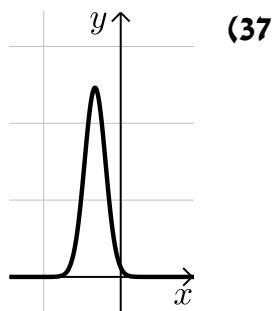
א.  $a = 2$  (45)  
 ב. עולה:  $x > -\frac{1}{\ln 2}$  יורדת:  $x < -\frac{1}{\ln 2}$  ג.  $k = 1$

ד.  $(0,0)$

א.  $y = -x \ln 81 + 7$  (46)  
 ג.  $\min\left(\frac{1}{3}, \sqrt[3]{243}\right)$

סקיצות לשאלות החקירה:





# קורס מתמטיקה להנדסאי טכנולוגיות מים

פרק 28 - חשבון דיפרנציאלי - פונקציות לוגריתמיות

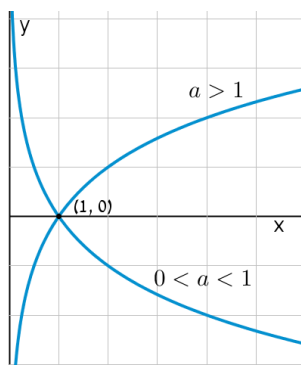
תוכן העניינים

1. הנגזרת של פונקציה לוגריתמית ..... 446
2. שימושי הנגזרת ..... 451
3. חקירה של פונקציה לוגריתמית ..... 452

## הנגזרת של פונקציה לוגריתמית:

**סיכום כללי:**

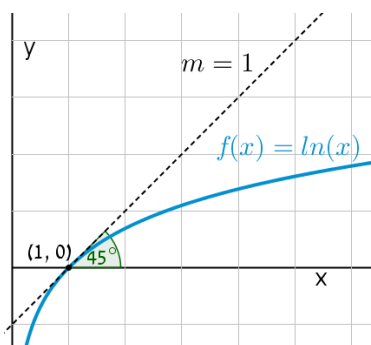
**הגדרות כלליות:**



להלן תיאורים גרפיים של פונקציה לוגריתמית כללית מהצורה:  $f(x) = \log_a x$  עבור  $a > 1$  ו-  $0 < a < 1$ :

**תכונות כלליות:**

- לפונקציות תחום הגדרה  $x > 0$ .
- הפונקציות תמיד חותכות את ציר ה- $x$  בנקודה  $(1, 0)$ .
- עבור  $a > 1$  הפונקציה עולה בכל ת.ה. ועבור  $0 < a < 1$  הפונקציה יורדת בכל ת.ה.



עבור הפונקציות  $f(x) = \ln x = \log_e x$  נקבל כי שיפוע המשיק לגרף הפונקציה בנקודת החיתוך שלה עם ציר ה- $x$  הוא 1:

**תחום הגדרה של פונקציה לוגריתמית:**

תחום ההגדרה של פונקציה לוגריתמית מהצורה:  $y = \log(f(x))$  הוא:  $f(x) > 0$ .

## נגזרות של פונקציות לוגריתמיות:

הפונקציה	הנגזרת
$y = \log_a x$	$y' = \frac{1}{x \ln a}$
$y = \log_a f(x)$	$y' = \frac{f'(x)}{f(x) \ln a}$
$y = \ln x$	$y' = \frac{1}{x}$
$y = \ln f(x)$	$y' = \frac{f'(x)}{f(x)}$

## שאלות:

1 גזור את הפונקציות הבאות (גזירה לוגריתמית יסודית עם ביטויים פנימיים שונים):

א.  $f(x) = 3 \ln x + 4 \ln(x+2) - \ln(5x-1)$     ב.  $f(x) = \ln(x^2 - 3x)$

ג.  $f(x) = \ln \frac{x+1}{x-1}$     ד.  $f(x) = \ln(e^x + 1)$

ה.  $f(x) = \ln(\cos x)$     ו.  $f(x) = \log_2 x + 5 \log_3(2x-1)$

2 גזור את הפונקציות הבאות (מכפלה ומנה של פונקציות):

א.  $f(x) = x \ln x$     ב.  $f(x) = (3x+1)^2 \ln x$     ג.  $f(x) = \frac{\ln x}{x}$

ד.  $f(x) = \frac{\ln x - 2}{\ln x + 2}$     ה.  $f(x) = \sqrt{\ln x + x}$

3 גזור את הפונקציות הבאות (פונקציות מורכבות):

א.  $f(x) = \ln^3 x$     ב.  $f(x) = 3 \ln^2 x$

ג.  $f(x) = x^2 \ln^2 x$     ד.  $f(x) = \frac{\ln^2 x + 1}{(\ln x + 1)^2}$

4) גזור את הפונקציות הבאות (שאלות שונות):

א. $f(x) = \ln(x+2)$	ב. $f(x) = \ln^2 x + 2 \ln x - 3$
ג. $f(x) = x^2 \ln x$	ד. $f(x) = x^3 \ln x$
ה. $f(x) = \ln e^{2x}$	ו. $f(x) = e^x \ln x$
ז. $f(x) = e^{-x^2} \ln x$	ח. $f(x) = x^2(2 \ln x - 1)$
ט. $f(x) = \ln(x^2)$	י. $f(x) = \ln(x^4)$
יא. $f(x) = (\ln x)^4$	יב. $f(x) = x \ln x - \ln x^2$
יג. $f(x) = \frac{(\ln x)^2}{x}$	יד. $f(x) = \ln \sqrt{x}$
טו. $f(x) = \sqrt{\ln x}$	טז. $f(x) = \frac{\ln x}{\sqrt{x}}$

5) גזור את הפונקציות הבאות (שאלות אתגר):

א. $f(x) = \ln \frac{x+2}{x}$	ב. $f(x) = \ln \frac{x-1}{x+1}$
ג. $f(x) = \ln \frac{x-3}{x+3}$	ד. $f(x) = \ln \frac{(x-5)^3}{(x+1)^2}$
ה. $f(x) = \ln \sqrt{x^2 - 1}$	ו. $f(x) = \ln(x + \sqrt{x^2 + a^2})$
ז. $f(x) = e^{\sqrt{\ln x}}$	ח. $f(x) = \ln \sqrt{\frac{1}{2-x}}$
ט. $f(x) = \ln \sqrt{\frac{1-x}{1+x}}$	י. $f(x) = \ln \sqrt{\frac{1+5x}{1-5x}}$
יא. $f(x) = \frac{\ln \sqrt[3]{x}}{x}$	יב. $f(x) = \frac{(\ln x)^3}{x}$
יג. $f(x) = \frac{x}{\ln(x^2)}$	יד. $f(x) = \ln^2 x + \frac{1}{\ln^2 x}$
טו. $f(x) = \frac{x}{\ln^4 x}$	



$$\frac{3 \ln^2 x - \ln^3 x}{x^2} \quad \text{י.ב.}$$

$$\frac{\ln x - 4}{\ln^5 x} \quad \text{ט.ו.}$$

$$\frac{1 - 3 \ln \sqrt[3]{x}}{3x^2} \quad \text{י.א.}$$

$$\frac{2(\ln^4 x - 1)}{x \ln^3 x} \quad \text{י.ד.}$$

$$\frac{5}{1 - 25x^2} \quad \text{י.}$$

$$\frac{\ln(x^2) - 2}{\ln^2(x^2)} \quad \text{י.ג.}$$

## שימושי הנגזרת:

### שאלות:

(6) מצא את משוואת המשיק לפונקציה  $f(x) = \ln x$  בנקודה  $A(e, 1)$ .

(7) שיפוע המשיק לפונקציה  $f(x) = \frac{\ln^2 x + a}{\ln x + b}$  בנקודה  $\left(\frac{1}{e}, -1\right)$  הוא  $\frac{e}{3}$ .  
מצא את ערכי הפרמטרים  $a$  ו- $b$ .

(8) הגרפים של הפונקציות  $f(x) = \ln x$  ו- $g(x) = 1 - \ln x$  נחתכים בנקודה  $A$  ברביע הראשון.  
בנקודה  $A$  העבירו משיק ל- $f(x)$ .  
מצא את משוואת המשיק והוכח שמשיק זה עובר דרך הראשית.

(9) לפונקציה  $g(x) = \frac{\ln x^2}{x}$  העבירו משיק בנקודה שבה  $x = e^2$ .  
מצא את משוואת המשיק.

(10) מצא את משוואת המשיק לגרף הפונקציה  $y = x \ln(x^2 + 1)$  בנקודה שבה  $x = 1$ .

### תשובות סופיות:

(6)  $y = \frac{1}{e}x$

(7)  $a = 2, b = -2$

(8)  $y = \frac{1}{e}x$

(9)  $y = -\frac{2}{e^4}x + \frac{6}{e^2}$

(10)  $y = \ln 2 \cdot x + x - 1$

## חקירה של פונקציה לוגריתמית:

### שאלות:

11 מצא את תחום ההגדרה של הפונקציות הבאות:

א. $f(x) = \ln x$	ב. $f(x) = \ln(x^2)$
ג. $f(x) = \log_3(x^2 - 8x - 20)$	ד. $f(x) = \ln(e^x - 4)$
ה. $f(x) = \frac{x-1}{\ln x - 1}$	ו. $f(x) = \frac{1}{\ln^2 x - 2 \ln x - 3}$
ז. $f(x) = \sqrt{\ln x - 1}$	

12 מצא את נקודות הקיצון של הפונקציה הבאה:  $f(x) = 2 \ln x - x^2$ .

13 מצא את נקודות הקיצון של הפונקציה הבאה:  $f(x) = x^2 \ln x$ .

14 מצא את נקודות הקיצון של הפונקציה הבאה:  $f(x) = \frac{\sqrt{2 \ln x - 1}}{x}$ .

15 מצא את נקודות הקיצון של הפונקציה הבאה:  $f(x) = \log_4^2 x - \log_2 x$ .

16 נתונה הפונקציה:  $f(x) = \frac{a \ln x + b}{x}$ . הנקודה  $(e^2, \frac{1}{e^2})$  היא נקודת קיצון של הפונקציה. מצא את ערכי הפרמטרים  $a$  ו- $b$ .

17 נתונה הפונקציה:  $f(x) = \frac{a \ln^2 x + b \ln x}{(\ln x + 1)^2}$ . הנקודה  $(\sqrt[3]{e}, -\frac{1}{8})$  היא נקודת קיצון של הפונקציה. מצא את ערכי הפרמטרים  $a$  ו- $b$ .

18 מצא את האסימפטוטות של הפונקציה הבאה:  $f(x) = \ln(x-3)$ .

19 מצא את האסימפטוטות של הפונקציה הבאה:  $f(x) = \frac{1}{\ln x - 1}$ .

(20) מצא את האסימפטוטות של הפונקציה הבאה:  $f(x) = \frac{2\ln x - 1}{\ln x + 1}$ .

(21) מצא את האסימפטוטות של הפונקציה הבאה:  $f(x) = \frac{\ln x - 2}{\ln^2 x - 4}$ .

(22) מצא את האסימפטוטות של הפונקציה הבאה:  $f(x) = \frac{\ln x}{x}$ .

(23) מצא את האסימפטוטות של הפונקציה הבאה:  $f(x) = \frac{x^2 - 1}{\ln^2 x + 1}$ .

(24) מצא את האסימפטוטות של הפונקציה הבאה:  $f(x) = x \ln x + 2$ .

(25) נתונה הפונקציה:  $f(x) = \frac{\ln x}{x}$ . מצא את נקודת הפיתול של הפונקציה.

(26) חקור את הפונקציות הבאות עפ"י הסעיפים הבאים:

- i. מציאת תחום ההגדרה של הפונקציה.
- ii. מציאת נקודות החיתוך של גרף הפונקציה עם הצירים.
- iii. מציאת נקודות הקיצון של הפונקציה וקביעת סוגן.
- iv. כתיבת תחומי העלייה והירידה של הפונקציה.

$y = x \ln x$ ב.	$y = \frac{1}{2}x^2 - 4x + 3 \ln x$ א.
$y = \sqrt{x} \ln x$ ד.	$y = x \ln x - x$ ג.
$y = \ln(x^2 + 1)$ ו.	$y = x^2 \ln x$ ה.

(27) נתונה הפונקציה  $f(x) = 2x \ln^2 x$ . חקור לפי הסעיפים הבאים:

- מציאת תחום ההגדרה של הפונקציה.
- מציאת נקודות הקיצון של הפונקציה וקביעת סוגן.
- כתיבת תחומי העלייה והירידה של הפונקציה.
- נקודות החיתוך של גרף הפונקציה עם הצירים.
- סרטוט סקיצה של גרף הפונקציה.

(28) נתונה הפונקציה  $f(x) = \frac{x}{\ln x - 1}$ . חקור לפי הסעיפים הבאים:

- תחום הגדרה של הפונקציה.
- מציאת נקודות הקיצון של הפונקציה וקביעת סוגן.
- כתיבת תחומי העלייה והירידה של הפונקציה.
- מציאת נקודות החיתוך של גרף הפונקציה עם הצירים.
- סרטוט סקיצה של גרף הפונקציה.
- מצא לאלו ערכי  $k$  הישר  $y = k$  חותך את הפונקציה בשתי נקודות.

(29) נתונה הפונקציה  $f(x) = \log_4^2 x - \log_2 x$ . חקור לפי הסעיפים הבאים:

- תחום הגדרה של הפונקציה.
- מציאת נקודות הקיצון של הפונקציה וקביעת סוגן.
- כתיבת תחומי העלייה והירידה של הפונקציה.
- מציאת נקודות החיתוך של גרף הפונקציה עם הצירים.
- סרטוט סקיצה של גרף הפונקציה.

(30) נתונה הפונקציה:  $f(x) = \sqrt{\ln x}$ .

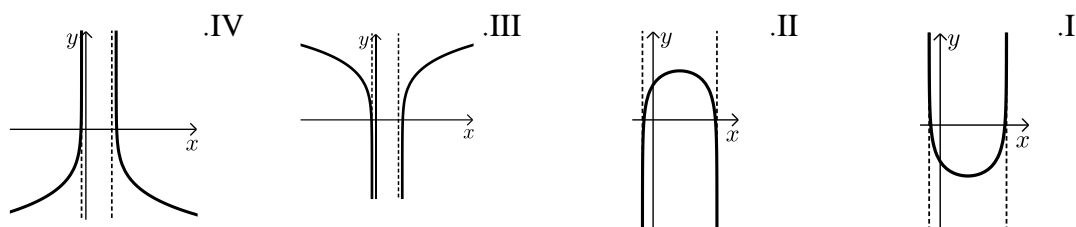
- מהו תחום ההגדרה של הפונקציה?
- הוכח כי גרף הפונקציה עולה בכל תחום הגדרתו.
- מגדירים פונקציה נוספת:  $g(x) = \ln x$ .
- מצא את נקודות החיתוך של שני הגרפים.
- הנקודה A נמצאת על גרף הפונקציה  $f(x)$  והנקודה B נמצאת על גרף הפונקציה  $g(x)$ . ידוע כי לנקודות A ו-B אותו שיעור  $x$ ,  $(x_A = x_B)$ .
- מצא את שיעור ה- $x$  של שתי הנקודות אם ידוע כי המשיקים לגרפים של הפונקציות בנקודות אלו מקבילים.

**31** נתונה שתי הפונקציות הבאות:  $f(x) = \frac{x}{\ln x}$ ,  $g(x) = \frac{\ln x}{x}$ .

- א. קבע אילו מהמשפטים הבאים נכונים ואלו שגויים.  
 נמק זאת ע"י חישוב מתאים ותקן במשפטים השגויים את הטעות.
- לשתי הפונקציות אותו תחום הגדרה.
  - לשתי הפונקציות יש נקודת קיצון מאותו סוג ובעלות שיעור  $x$  זהה.
  - לשתי הפונקציות תחומי עלייה וירידה זהים.
  - לשתי הפונקציות יש אסימפטוטות אנכיות.
- ב. בחרים באקראי שתי נקודות, אחת על כל גרף, כך ששיעור ה- $x$  שלהן זהה. הוכח כי מכפלת שיעורי ה- $y$  של כל זוג נקודות כאלו שווה ל-1.

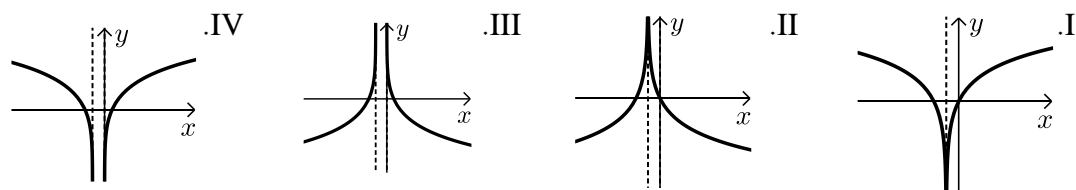
**32** נתונה הפונקציה הבאה:  $y = \ln(x^2 - 6x - 7)$ .

- א. מצא את תחום ההגדרה של הפונקציה.  
 ב. מהן האסימפטוטות של הפונקציה המקבילות לציר ה- $y$ ?  
 ג. מצא את תחומי העלייה והירידה של הפונקציה.  
 ד. לפניך 4 גרפים: I, II, III, ו-IV. איזה מהגרפים מתאים לפונקציה הנתונה. נמק.



**33** נתונה הפונקציה:  $y = \ln(x^2 + 2x + 1)$ .

- א. מצא את תחום ההגדרה של הפונקציה.  
 ב. מהי האסימפטוטה של הפונקציה המקבילה לציר ה- $y$ ?  
 ג. מצא את תחומי העלייה והירידה של הפונקציה.  
 ד. לפניך 4 גרפים: I, II, III, ו-IV. איזה מהגרפים מתאים לפונקציה הנתונה. נמק.



ה. העזר בגרף שבחרת וכתוב את תחומי השליליות של הפונקציה.

34 לפינך הפונקציה הבאה :  $f(x) = \ln(1 - \ln x)$ .

- מה הוא תחום ההגדרה של הפונקציה?
- הוכח כי הפונקציה יורדת בכל תחום הגדרתה.
- מצא את נקודות החיתוך של גרף הפונקציה עם ציר ה- $x$ .
- סרטט סקיצה של גרף הפונקציה.

35 נתונה הפונקציה הבאה :  $y = \ln \frac{2x+1}{x-1}$ .

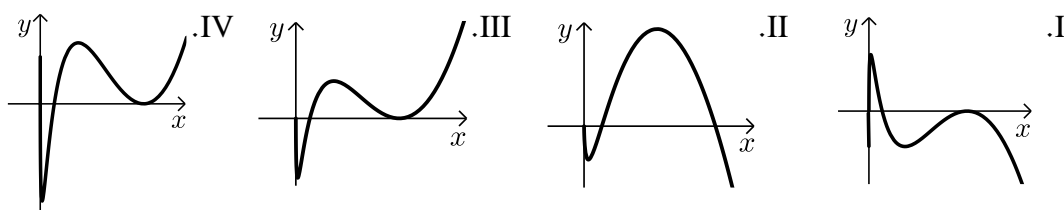
- מצא את תחום ההגדרה של הפונקציה.
- כתוב את האסימפטוטות האנכיות של גרף הפונקציה.
- מצא את נקודות החיתוך של גרף הפונקציה עם ציר ה- $x$ .
- הראה כי גרף הפונקציה יורד בכל תחום הגדרתו.
- סרטט סקיצה של גרף הפונקציה.

36 נתונה הפונקציה הבאה :  $f(x) = x(\ln^3 x + 2\ln^2 x)$ .

- הראה כי נגזרת הפונקציה היא :  $f'(x) = \ln^3 x + 5\ln^2 x + 4\ln x$ .
- מצא את התחום בו הפונקציה עולה.
- ענה על השאלות הבאות:

- מצא את נקודות החיתוך של הפונקציה עם ציר ה- $x$ .
- מצא את התחום בו הפונקציה חיובית.

ד. לפינך 4 גרפים. קבע איזה מהם מתאר את הפונקציה  $f(x)$  ונמק את בחירתך.



37 נתונה הפונקציה :  $f(x) = \ln^3 x - 3\ln x$ .

- מה הוא תחום ההגדרה של הפונקציה.
- מצא את נקודות החיתוך של הפונקציה עם ציר ה- $x$ .
- מצא את נקודות הקיצון של הפונקציה וקבע את סוגן.
- סרטט סקיצה של גרף הפונקציה.
- מצא את נקודות החיתוך של גרף הפונקציה  $f(x)$  עם הפונקציה  $g(x) = \ln x$ .

38) ענה על הסעיפים הבאים :

א. פתור את המשוואה הבאה :  $\ln(x+e) - \ln(x\sqrt{e}) = \ln 2 - 0.5$

נתונה הפונקציה :  $f(x) = \ln(x+e) - \ln(x\sqrt{e})$

ב. הראה כי הפונקציה יורדת בכל תחום הגדרתה.

ג. מצא את משוואת המשיק לגרף הפונקציה בנקודה שבה :  $x = e$ .

39) נתונה הפונקציה הבאה :  $y = \frac{x+a}{\ln(x+a)}$  , פרמטר חיובי,  $a \neq 1$

א. הבע באמצעות  $a$  את :

i. תחום ההגדרה של הפונקציה.

ii. הנקודה המקיימת  $y' = 0$ .

iii. נקודת החיתוך של גרף הפונקציה עם הצירים.

iv. האסימפטוטה האנכית של הפונקציה.

ב. ידוע כי גרף הפונקציה עולה רק בתחום :  $x > e - 2$ . מצא את  $a$ .

ג. סרטט סקיצה של גרף הפונקציה בתחום  $x > -1$ .

ד. נתון הישר :  $y = k$ . מצא בסקיצה את תחום הערכים של  $k$  עבורו לישר ולגרף הפונקציה לא תהיה אף נקודה משותפת.

40) נתונה הפונקציה הבאה :  $y = \ln x + \frac{1}{x}$

א. ענה על הסעיפים הבאים :

i. מהו תחום ההגדרה של הפונקציה?

ii. יש לגרף הפונקציה אסימפטוטה מקבילה לציר  $y$  ?

אם כן מצא אותה.

ב. מצא את נקודת הקיצון של גרף הפונקציה וקבע את סוגה.

ג. כתוב את תחומי העלייה והירידה של גרף הפונקציה.

**תשובות סופיות:**

(11) א.  $x > 0$     ב.  $x \neq 0$     ג.  $x > 10$  או  $x < -2$     ד.  $x > \ln 4$

ה.  $0 < x \neq e$     ו.  $x > 0$  וגם  $x \neq e^3, e^{-1}$     ז.  $x \geq e$

(12)  $\max(1, -1)$

(13)  $\min\left(\frac{1}{\sqrt{e}}, -\frac{1}{2e}\right)$

(14)  $\max\left(e, \frac{1}{e}\right)$  קצה,  $\min(\sqrt{e}, 0)$

(15)  $\min(4, -1)$

(16)  $a = 1, b = -1$

(17)  $a = 1, b = -1$

(18)  $x = 3$

(19) נקודת אי הגדרה  $(0, 0)$ ,  $y = 0, x = e$

(20) נקודת אי הגדרה  $(0, 2)$ ,  $y = 2, x = \frac{1}{e}$

(21) נקודת אי הגדרה  $(e^2, \frac{1}{4})$ ,  $(0, 0)$ ;  $y = 0, x = \frac{1}{e^2}$

(22)  $x = 0, y = 0$

(23) נקודת אי הגדרה  $(0, 0)$

(24) נקודת אי הגדרה  $(0, 2)$

(25)  $\left(\sqrt{e^3}, \frac{3}{2\sqrt{e^3}}\right)$

(26) א. i.  $x > 0$     iii.  $\max(1, -3.5), \min(3, \ln 27 - 7.5)$

iv. עולה:  $0 < x < 1, x > 3$  יורדת:  $1 < x < 3$     ב. i.  $x > 0$     ii.  $(1, 0)$

iii.  $\min(e^{-1}, -e^{-1})$     iv. עולה:  $x > e^{-1}$  יורדת:  $0 < x < e^{-1}$

ג. i.  $x > 0$     ii.  $(e, 0)$     iii.  $\min(1, -1)$     iv. עולה:  $x > 1$  יורדת:  $0 < x < 1$

ד. i.  $x > 0$     ii.  $(1, 0)$     iii.  $\min\left(e^{-2}, -\frac{2}{e}\right)$     iv. עולה:  $x > e^{-2}$  יורדת:  $0 < x < e^{-2}$

ה. i.  $x > 0$  ii.  $(1, 0)$  iii.  $\min\left(\frac{1}{\sqrt{e}}, -\frac{1}{2e}\right)$  iv. עולה:  $x > \frac{1}{\sqrt{e}}$  יורדת:  $0 < x < \frac{1}{\sqrt{e}}$

ו. i. כל  $x$  ii.  $(0, 0)$  iii.  $\min(0, 0)$  iv. עולה:  $x > 0$  יורדת:  $x < 0$

(27) א.  $x > 0$  ב.  $\max\left(\frac{1}{e^2}, \frac{8}{e^2}\right), \min(1, 0)$

ג. עלייה:  $x > 1$  או  $0 < x < \frac{1}{e^2}$ , ירידה:  $\frac{1}{e^2} < x < 1$  ד.  $(1, 0)$ .

(28) א.  $0 < x \neq e$  ב.  $\min(e^2, e^2)$  ג. עלייה:  $x > e^2$ , ירידה:  $0 < x < e^2$

ו.  $k > e^2$  ד. אין.

(29) א.  $x > 0$  ב.  $\min(4, -1)$  ג. עלייה:  $x > 4$ , ירידה:  $0 < x < 4$

ד.  $(1, 0), (16, 0)$ .

(30) א.  $x \geq 1$  ב. מתקבל:  $0 < f'(x) = \frac{1}{2x\sqrt{\ln x}}$  ג.  $(e, 1), (1, 0)$

ד.  $x = \sqrt[4]{e}$ .

(31) א. i. לא נכון. תחום ההגדרה של  $f(x)$  הוא:  $x > 0, x \neq 1$  ותחום ההגדרה של  $g(x)$  הוא:  $x > 0$ .

ii. לא נכון. לשתי הפונקציות נקודת קיצון שבה  $x = e$  אך עבור  $f(x)$  מדובר במינימום ועבור  $g(x)$  מדובר במקסימום.

iii. לא נכון. עבור  $f(x)$ : עולה:  $x > e$  יורדת:  $0 < x < e, x \neq 1$ .

ועבור  $g(x)$ : עולה:  $0 < x < e$  יורדת:  $x > e$  iv. נכון.

ב. לגבי כל נקודה נאמר כי שיעור ה- $y$  שלה הוא:  $y = \frac{x}{\ln x}$  ו- $y = \frac{\ln x}{x}$ .

נכפול:  $y = \frac{x}{\ln x} \cdot \frac{\ln x}{x} = 1$ .

(32) א.  $x < -1, x > 7$  ב.  $x = -1, 7$  ג. עולה:  $x > 7$  יורדת:  $x < -1$ .

ד. III. הסבר: באיורים I ו-II גרף הפונקציה לא בתחום. באיור IV תחומי העלייה והירידה הפוכים.

(33) א.  $x \neq -1$  ב.  $x = -1$  ג. עולה:  $x > -1$  יורדת:  $x < -1$ .

ד. I. הסבר: באיור II תחומי העלייה והירידה הפוכים.

באיורים III ו-IV יש אסימפטוטה מיותרת. ה.  $x \neq -1, -2 < x < 0$ .

34 א.  $0 < x < e$ . (שימו לב כי תנאי ת.ה. הם:  $1 - \ln x > 0$  וגם  $x > 0$ ).

ב.  $f'(x) = \frac{-\frac{1}{x}}{1 - \ln x} = -\frac{1}{x(1 - \ln x)} < 0$ . ולכן הפונקציה יורדת בת.ה.

ג.  $(1, 0)$ .

35 א.  $x < -\frac{1}{2}, x > 1$ . ב.  $x = -\frac{1}{2}, 1$ . ג.  $(-2, 0)$ .

ד. מתקבל:  $y' = \frac{-3}{(2x+1)(x-1)} < 0$ .

36 ב.  $x > 1, e^{-4} < x < e^{-1}$ .

ג. i. 2 נקודות והן:  $(e^{-2}, 0)$ ,  $(1, 0)$ . הנקודה שבה:  $x = 0$  לא קיימת עקב ת.ה.

ii.  $x \neq 1, x > e^{-2}$ . ד. III – בראשית הצירים יש חור ולא אסימפטוטה.

שאר הנתונים כפי שהתקבלו בסעיפים הקודמים.

37 א.  $x > 0$ . ב.  $(e^{-\sqrt{3}}, 0)$ ,  $(1, 0)$ ,  $(e^{\sqrt{3}}, 0)$ . ג.  $\min(e, -2)$ ,  $\max(e^{-1}, 2)$ .

ה.  $(1, 0)$ ,  $(e^2, 2)$ ,  $(e^{-2}, -2)$ .

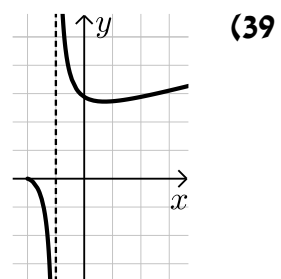
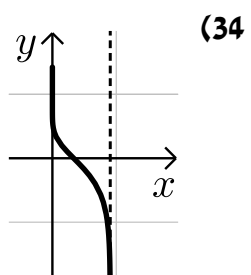
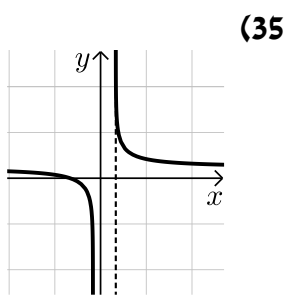
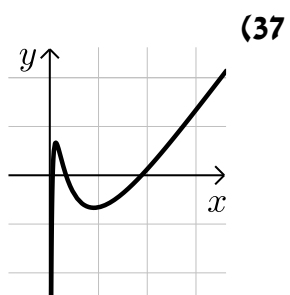
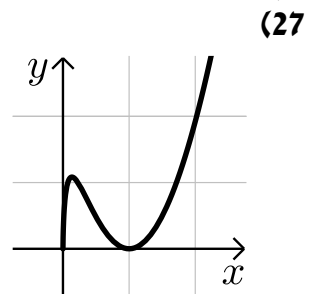
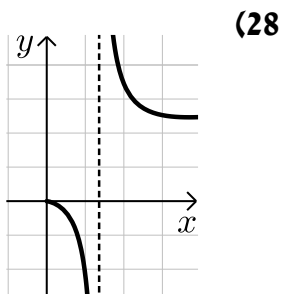
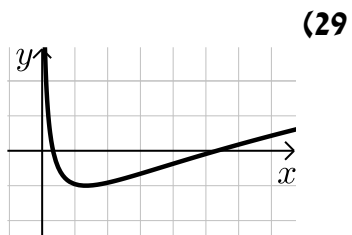
38 א.  $x = e$ . ב. מתקבל:  $y' = \frac{-e}{x(x+e)} < 0$ . ג.  $y = -\frac{1}{2e}x + \ln 2$ .

39 א. i.  $x > -a, x \neq 1 - a$ . ii.  $(e - a, e)$ . iii.  $(0, \frac{a}{\ln a})$ .

iv.  $x = 1 - a$ . ב.  $a = 2$ . ד.  $k < e$ .

40 א. i.  $x > 0$ . ii.  $x = 0$ . ב.  $\min(1, 1)$ . ג. עולה:  $x > 1$ , יורדת:  $0 < x < 1$ .

## סקיצות לשאלות:



# קורס מתמטיקה להנדסאי טכנולוגיות מים

פרק 29 - חשבון דיפרנציאלי - בעיות קיצון

תוכן העניינים

462	1. בעיות קיצון יסודיות עם מספרים
464	2. בעיות קיצון בהנדסת המישור
468	3. בעיות קיצון בפונקציות וגרפים
472	4. בעיות קיצון בהנדסת המרחב
474	5. בעיות קיצון עם תשובה נתונה
475	6. בעיות קיצון שונות בהנדסת המישור
479	7. בעיות קיצון שונות בהנדסת המרחב
481	8. בעיות קיצון שונות בפונקציות וגרפים

## בעיות קיצון יסודיות עם מספרים:

### סיכום כללי:

### שלבי עבודה:

- נגדיר את אחד הגדלים בשאלה כ- $x$ .
- נבטא את שאר הגדלים בשאלה באמצעות  $x$ .
- נבנה פונקציה שמבטאת את מה שרצינו שיהיה מינימלי/מקסימלי.
- נגזור את הפונקציה, נשווה לאפס ונחלץ ערך/ערכי ה- $x$ .
- נוודא שערך ה- $x$  מהסעיף הקודם הוא אכן מינימום/מקסימום באמצעות "  $y$  (או טבלה).
- ננסח את התשובה לשאלה המקורית.

### שאלות:

- 1) מבין כל זוגות המספרים שסכומם 14 מצא את הזוג שמכפלתו מקסימלית.
- 2) נתונים שלושה מספרים שסכומם 24. המספר הראשון שווה למספר השני. מצא מהם המספרים אם ידוע שמכפלתם מקסימלית.
- 3) מצא את המספר החיובי שאם נוסיף לו את המספר ההופכי לו הסכום המתקבל יהיה מינימלי.
- 4) נתונים שלושה מספרים שסכומם הוא 36. ידוע שמספר אחד זהה לשני.
  - א. מה צריכים להיות שלושת המספרים כדי שמכפלתם תהיה מקסימלית?
  - ב. כיצד תשתנה התוצאה אם מספר אחד יהיה גדול פי 2 מהשני במקום שווה לו?
  - ג. באיזה מקרה תהיה מכפלה גדולה יותר?
- 5)  $x$  ו- $y$  הם שני מספרים המקיימים:  $x + 6y = 60$ .
  - א. הבע את  $y$  באמצעות  $x$ .
  - ב. מה צריכים להיות המספרים  $x$  ו- $y$  כדי שמכפלת ריבועיהם תהיה מקסימלית?
  - ג. מהי המכפלה הנ"ל?

**תשובות סופיות:**

(1)  $.7, 7$

(2)  $.8, 8, 8$

(3)  $.1$

(4)  $12, 12, 12$  א.

ב.  $16, 12, 8$  ג. מקרה א'.

(5) א.  $y = 10 - \frac{x}{6}$  ב.  $x = 30, y = 5$  ג.  $M = 22500$ .

## בעיות קיצון בהנדסת המישור:

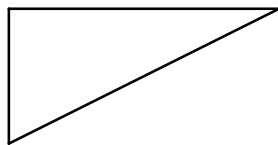
### שאלות:

6) מבין כל המשולשים שווי השוקיים שהיקפם 24 ס"מ מצא את אורך בסיסו של המשולש בעל השטח הגדול ביותר.

7) ענה על הסעיפים הבאים:

א. מבין כל המשולשים שווי השוקיים שהיקפם  $a$ , מצא את בסיסו של המשולש בעל השטח הגדול ביותר.

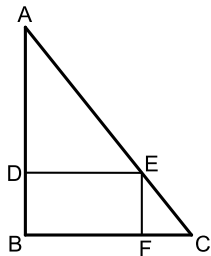
ב. הוכח: מבין כל המשולשים שווי השוקיים בעלי אותו היקף, המשולש בעל השטח הגדול ביותר הוא משולש שווה צלעות.



8) במשולש ישר זווית סכום אורכי הניצבים הוא 12 ס"מ.  
א. מה צריך להיות אורך כל ניצב, כדי שטח המשולש יהיה מקסימלי?

ב. מהו השטח המקסימלי?

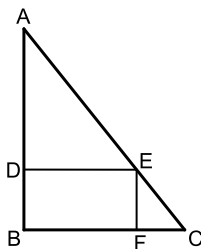
ג. מה יהיה אורך היתר במשולש במקרה זה?



9) במשולש ישר זווית  $ABC$  ( $\sphericalangle B = 90^\circ$ ) הנקודה  $E$  נמצאת על היתר  $AC$  כך שהמרובע  $EDBF$  הוא מלבן.

נתון:  $AB = 20$  ס"מ,  $BC = 16$  ס"מ.

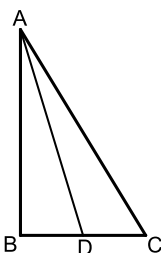
מצא את שטחו של המלבן בעל השטח הגדול ביותר.



10) במשולש ישר זווית  $ABC$  ( $\sphericalangle B = 90^\circ$ ) הנקודה  $E$  נמצאת על היתר  $AC$  כך שהמרובע  $EDBF$  הוא מלבן.

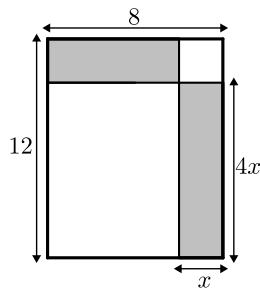
נתון:  $AB = a$ ,  $BC = b$ .

מצא את שטחו של המלבן בעל השטח הגדול ביותר.

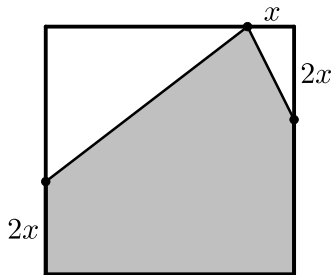


11) במשולש ישר הזווית  $ABC$  ( $\sphericalangle B = 90^\circ$ ),  $AD$  הוא תיכון לניצב  $BC$  ידוע כי סכום אורכי הניצבים הוא 20 ס"מ.

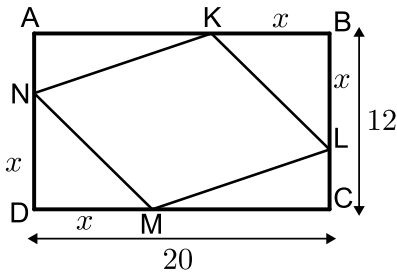
מצא מה צריכים להיות אורכי הניצבים עבורם אורך התיכון  $AD$  יהיה מינימלי.



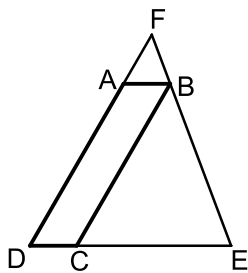
**12** נתון מלבן שאורכי צלעותיו הם 8 ס"מ ו-12 ס"מ כמתואר באיור. מקצים קטעים באורכים של  $x$  ו- $4x$  על צלעות המלבן כך שנוצרים המלבנים המסומנים. מצא את  $x$  עבורו סכום שטחי המלבנים הוא מינימלי.



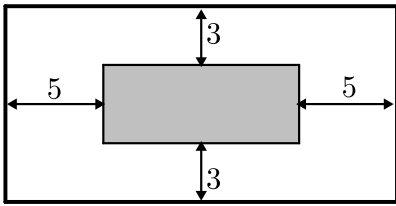
**13** נתון ריבוע בעל אורך צלע של 16 ס"מ. מקצים קטע שאורכו  $x$  על הצלע העליונה ושני קטעים שאורכם  $2x$  על הצלעות הצדדיות כמתואר באיור כך שנוצר המחומש המסומן. מצא מה צריך להיות ערכו של  $x$  עבורו שטח המחומש יהיה מקסימלי.



**14** הנקודות  $K, L, M, N$  מקצות קטעים שווים במלבן  $ABCD$  כך ש:  $BK = BL = DM = DN = x$ . צלעותיו של המלבן הן 20 ס"מ ו-12 ס"מ.  
 א. הבע באמצעות  $x$  את סכום שטחי המשולשים:  $\triangle AKN + \triangle KBL + \triangle CLM + \triangle DNM$   
 ב. מצא מה צריך להיות  $x$  כדי ששטח המרובע  $LKNM$  יהיה מקסימלי.  
 ג. מה הוא השטח של המרובע  $LKNM$  במקרה זה?



**15** המרובע  $ABCD$  הוא מקבילית. מהקדקוד  $B$  מעבירים את הצלע  $EF$  הנפגשת עם המשכי הצלעות  $AD$  ו- $DC$ . ידוע כי מידות המקבילית הן:  $AB = 2$  ס"מ,  $AD = 8$  ס"מ. מסמנים את אורך הצלע  $DE$  ב- $x$ .  
 א. הבע באמצעות  $x$  את אורך הצלע  $DF$ .  
 ב. מצא את  $x$  עבורו סכום הצלעות  $DE$  ו- $DF$  הוא מינימלי.  
 ג. מה הוא הסכום המינימלי?



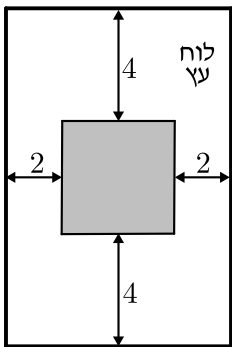
16) חיים הוא אחד מעובדי חברת "דפוס יהלום בע"מ". תפקידו של חיים הוא להדביק גלויות על משטחי קרטון בעלי שטח מינימלי כך שישארו רווחים של 3 ס"מ מקצוות הקרטון העליון והתחתון, ו-5 ס"מ מצדי הקרטון (ראה איור).

יום אחד קיבל חיים שיחת טלפון מלקוח אנונימי ששאל אותו את השאלה הבאה: "יש לי מגוון גדול של גלויות במידות שונות אשר שטחן זהה והוא 60 סמ"ר.

מה הן המידות של גלויה אשר שטח משטח הקרטון שלה יהיה מינימלי?".

א. עזור לחיים לענות ללקוח על שאלתו והראה דרך חישוב.

ב. מה יהיו מידות הקרטון עבור הגלויה המסוימת?

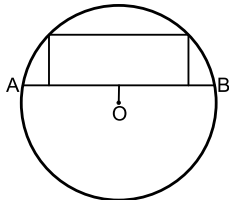


17) אלינה קיבלה משימה בשיעור מלאכה: יש להכין מסגרת לתמונה מלוח עץ ששטחו הכולל הוא 242 סמ"ר כך שעובי המסגרת בצדדים יהיה 2 ס"מ ובקצוות העליון והתחתון - 4 ס"מ (ראה איור).

כדי לבחור את מידות לוח העץ, אלינה צריכה לדעת את השטח המקסימלי שעליה לנסר עבור המקום לתמונה (השטח המסומן).

א. מה יהיו מידות לוח העץ שאלינה צריכה להזמין עבור המשימה?

ב. מה יהיה השטח המקסימלי לתמונה עבור המידות שאלינה בחרה?

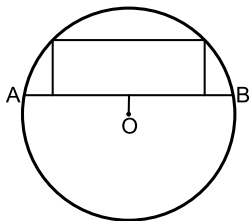


18) במעגל שמרכזו O ורדיוסו  $10\sqrt{5}$  ס"מ העבירו

מיתר AB שמרחקו ממרכז המעגל הוא 4 ס"מ.

במקטע שיוצר המיתר חסום מלבן כמתואר בשרטוט.

מצא את היקפו של המלבן בעל ההיקף הגדול ביותר.



19) במעגל שמרכזו O ורדיוסו R העבירו מיתר AB

שמרחקו ממרכז המעגל הוא a.

במקטע שיוצר המיתר חסום מלבן כמתואר בשרטוט.

מצא את היקפו של המלבן בעל ההיקף הגדול ביותר.



20) שני הולכי רגל יוצאים בו זמנית לדרכם, האחד

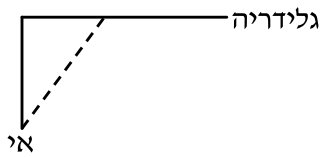
מעיר A מערבה לעיר B והשני מעיר B דרומה לעיר C.

המרחק בין הערים A ו-B הוא 20 ק"מ.

מהירות הרוכב שיצא מ-A היא 4 קמ"ש ומהירות הרוכב השני 2 קמ"ש

כעבור כמה זמן מיציאת הרוכבים יהיה המרחק ביניהם מינימלי?

מצא גם את המרחק המינימלי.



- 21) אדם נמצא על אי במרחק 0.5 ק"מ מהחוף. על החוף, במרחק של 3 ק"מ מהנקודה הקרובה ביותר לאי, נמצאת גלידריה. האדם שוחה במהירות של 8 קמ"ש ורץ על החוף במהירות של 10 קמ"ש. לאיזה מרחק מהגלידריה עליו לשחות כדי להגיע לגלידריה בזמן הקצר ביותר?



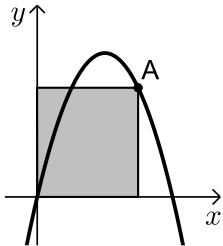
- 22) אדם מתכנן לבנות מרפסת בביתו ורוצה להציב מעקה סביב המרפסת. שטח המרפסת המתוכנן הוא 24 מ"ר. מחיר מעקה בחזית המרפסת (BC) הוא 120 ₪ למטר ומחיר מעקה בצדי המרפסת הוא 40 ₪ למטר. מה צריכים להיות ממדי המרפסת כדי שמחיר המעקה יהיה מינימלי?

### תשובות סופיות:

- 6) 8 ס"מ.  
 7) א.  $a/3$ . ב. הוכחה.  
 8) א. 6 ס"מ ו-6 ס"מ. ב. 18 סמ"ר.  
 9) 80 סמ"ר  $S$ .  
 10)  $\frac{ab}{4}$  יחידות שטח.  
 11) 4 ס"מ, 16 ס"מ.  
 12)  $x = 2.75$ .  
 13)  $x = 6$ .  
 14) א.  $2x^2 - 32x + 240$ . ב.  $x = 8$ .  
 15) א.  $DF = \frac{8x}{x-2}$ . ב.  $x = 6, L = \frac{x^2 + 6x}{x-2}$ .  
 16) א. 6 ס"מ על 10 ס"מ. ב. 12 ס"מ על 20 ס"מ.  
 17) א. 11 ס"מ על 22 ס"מ. ב.  $S = 98$ .  
 18) 92 ס"מ.  
 19)  $2\sqrt{5R} - 2a$  יחידות אורך.  
 20) 4 שעות, המרחק:  $\sqrt{80}$  ק"מ.  
 21)  $2\frac{1}{3}$  ק"מ.  
 22) 4.6
- ג.  $6\sqrt{2} \approx 8.48$  ס"מ.  
 ג. 128 סמ"ר  $S$ .  
 ג.  $L = 18$ .

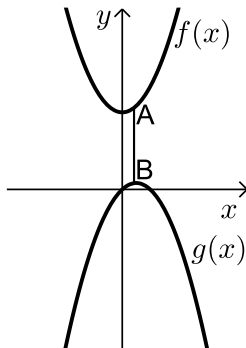
## בעיות קיצון בפונקציות וגרפים:

### שאלות:



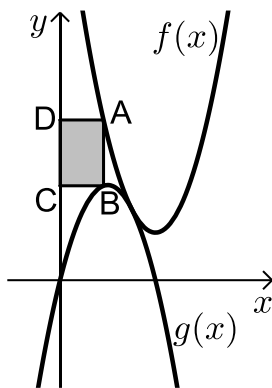
**(23)** נתונה הפונקציה  $f(x) = 6x - x^2$ .

מנקודה A שעל הפונקציה ברביע הראשון הורידו אנכים לצירי השיעורים כך שנוצר מלבן כמתואר בשרטוט. מה צריכים להיות שיעורי הנקודה A כדי ששטח המלבן יהיה מקסימלי?



**(24)** נתונות הפונקציות:  $f(x) = x^2 + 12$  ו-  $g(x) = 2x - x^2 - 1$ .

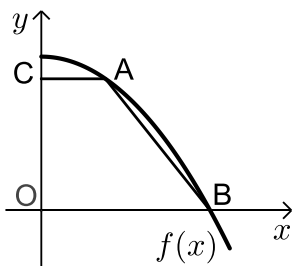
כמתואר: הנקודות A ו-B נמצאות בהתאמה על הגרפים של הפונקציות:  $f(x)$  ו-  $g(x)$  כך שהקטע AB מקביל לציר ה-  $y$ . מצא מה צריכים להיות שיעורי הנקודה A כדי שאורך הקטע AB יהיה מינימלי.



**(25)** באיור שלפניך מתוארים הגרפים של

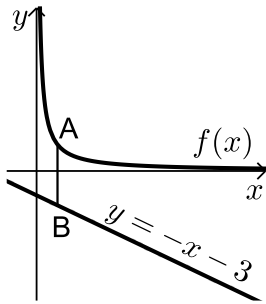
הפונקציות:  $f(x) = x^2 - 8x + 18$  ו-  $g(x) = -x^2 + 4x - 1$ .

הנקודה A נמצאת על גרף הפונקציה  $f(x)$  והנקודה B נמצאת על גרף הפונקציה  $g(x)$  כך שהקטע AB מקביל לציר ה-  $y$ . מעבירים אנכים מהנקודות A ו-B לציר ה-  $y$  כך שנוצר מלבן (המסומן). נסמן את שיעור ה-  $x$  של הנקודה A ב-  $t$ .  
א. הבע באמצעות  $t$  את שטח המלבן המסומן.  
ב. מצא את ערכו של  $t$  עבורו שטח המלבן הוא מקסימלי.  
ג. מה יהיה שטח המלבן במקרה זה?



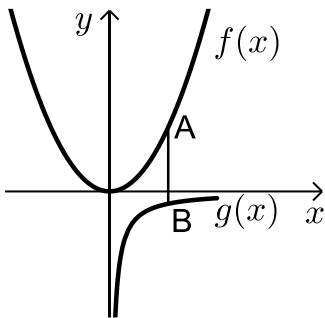
**(26)** נתונה הפונקציה:  $f(x) = 36 - x^2$ .

על גרף הפונקציה ברביע הראשון מסמנים נקודה A. מהנקודה A מעבירים ישר המקביל לציר ה-  $x$  שחותך את ציר ה-  $y$  בנקודה C. הנקודה B היא נקודת החיתוך של הפונקציה עם ציר ה-  $x$  ו-O ראשית הצירים.  
א. מה צריכים להיות שיעורי הנקודה A כדי ששטח הטרפז ABOC יהיה מקסימלי?  
ב. מה יהיה שטח הטרפז במקרה זה?



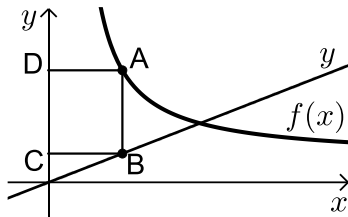
(27) נתונה הפונקציה:  $f(x) = \frac{4}{x}$  ונתון הישר:  $y = -x - 3$ .

הנקודה A נמצאת על גרף הפונקציה  $f(x)$  והנקודה B נמצאת על גרף הישר כך שהקטע AB מקביל לציר ה- $y$ . מצא מה צריכים להיות שיעורי הנקודה A כדי שאורך הקטע AB יהיה מינימלי.



(28) נתונות שתי פונקציות:  $f(x) = \frac{1}{2}x^2$  ו- $g(x) = -\frac{1}{x}$ .

מסמנים נקודה A על גרף הפונקציה  $f(x)$  ונקודה B על גרף הפונקציה  $g(x)$  כך שהקטע AB מקביל לציר ה- $y$ . מצא את שיעורי הנקודות A ו-B עבור אורך הקטע AB מינימלי.



(29) באיור שלפניך מתוארים הגרפים של

הפונקציה:  $f(x) = \frac{x+8}{x-1}$  והישר:  $y = \frac{9x}{25}$ .

הנקודות A ו-B נמצאות על הגרפים של הפונקציות כך שהקטע AB מקביל לציר ה- $y$ .

מהנקודות A ו-B מותחים אנכים לציר ה- $y$  כך שנוצר המלבן ABCD. נסמן את שיעור ה- $x$  של הנקודה A ב- $t$ .

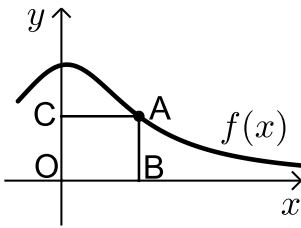
א. הבע באמצעות  $t$  את היקף המלבן ABCD.

ב. מצא את  $t$  עבורו היקף המלבן הוא מינימלי.

ג. מה יהיה ההיקף במקרה זה?

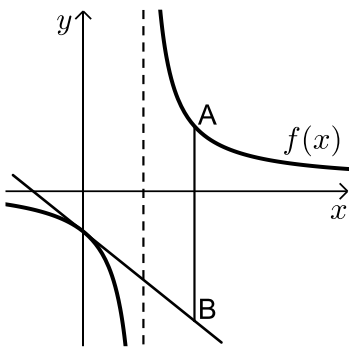
(30) נתונה הפונקציה  $f(x) = \frac{2}{x-1}$  והישר  $y = 2x$ .

בין הישר והפונקציה ברביע הראשון חסמו מלבן. מצא את מידות המלבן שהיקפו מינימלי.



**(31)** נתונה הפונקציה:  $f(x) = \frac{x+12}{x^2+3}$  בתחום:  $x \geq 0$ .

- מקצים נקודה A על גרף הפונקציה וממנה מורידים אנכים לצירים כך שנוצר המלבן ABCO כמתואר באיור.
- א. מצא מה צריכים להיות שיעורי הנקודה A עבורם שטח המלבן יהיה מקסימלי.
- ב. מה צריכים להיות שיעורי הנקודה A עבורם שטח המלבן יהיה מינימלי בתחום הנ"ל.



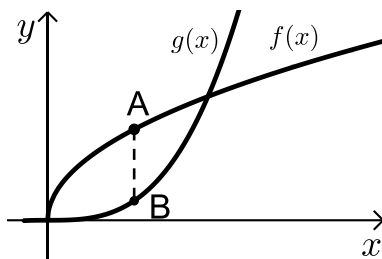
**(32)** נתונה הפונקציה:  $f(x) = \frac{x+10}{x-2}$ .

- מעבירים משיק לגרף הפונקציה דרך נקודת החיתוך שלה עם ציר ה- $y$ .
- א. מצא את משוואת המשיק.
- מסמנים נקודה A על גרף הפונקציה ברביע הראשון ו-B על גרף המשיק כך שהקטע AB מקביל לציר ה- $y$ .

- ב. מצא את שיעורי הנקודה A עבורן אורך הקטע AB הוא מינימלי.
- ג. מה יהיה אורך הקטע AB במקרה זה?

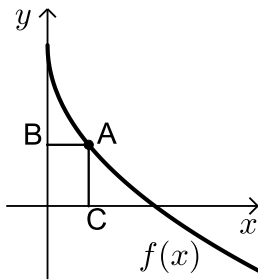
**(33)** נתונה הפונקציה  $f(x) = \frac{1}{x^3}$ .

- מצא שיעורי נקודה על הפונקציה ברביע הראשון, שסכום הקטעים שהמשיק בה מקצה על הצירים הוא מינימלי.



**(34)** נתונות הפונקציות  $f(x) = 2\sqrt{x}$  ו-  $g(x) = \frac{1}{3}x^3 - 1$ .

- את הנקודה A שעל  $f(x)$  חיברו עם הנקודה B, שנמצאת מתחתיה על  $g(x)$  כך שהקטע AB מקביל לציר ה- $y$ .
- מה צריכים להיות שיעורי הנקודה A כדי שאורך הקטע AB יהיה מקסימלי?



35 באיור שלפניך מתואר גרף הפונקציה:  $f(x) = 6 - 3\sqrt{x}$ .

הנקודה A נמצאת על גרף הפונקציה ברביע הראשון.

מהנקודה A מותחים אנכים לצירים אשר חותכים

אותם בנקודות B ו-C כמתואר באיור.

נסמן את שיעור ה-x של הנקודה A ב-t.

א. הבע באמצעות t את סכום הקטעים AC+AB.

ב. מצא את ערכו של t עבורו סכום הקטעים הנ"ל

יהיה מינימלי.

36 נתונות הפונקציות:  $f(x) = 1 - x^2$  ו-  $g(x) = bx^2$  ( $b > 0$ ).

הפונקציות נחתכות בנקודות A ו-B.

מצא את ערכו של b שבעבורו הקטע AO מינימלי (O - ראשית הצירים).

### תשובות סופיות:

23 . A(4,8)

24 . A(0.5,12.25)

25 א.  $S = 2t^3 - 12t^2 + 18t$

ב.  $t = 1$

ג.  $S = 8$

26 א. A(2,32)

ב.  $S = 128$

27 . A(2,2)

28 . A(1, 1/2), B(1,-1)

29 א.  $P = \frac{1.28t^2 + 0.72t + 16}{t-1}$

ב.  $t = 4 \frac{3}{4}$

ג.  $P = 12.88$  ס"מ

30 .1.2

31 א. A(2,2)

ב. A(0,4)

32 א.  $y = -3x - 5$

ב. A(4,7)

ג. AB = 24

33 .  $(\sqrt{3}, \frac{1}{3\sqrt{3}})$

34 . A(1,2)

35 א.  $l = t + 6 - 3\sqrt{t}$

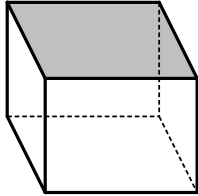
ב.  $t = 2.25$

36 . b=1

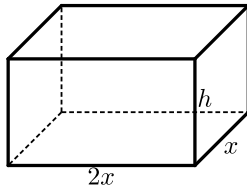
## בעיות קיצון בהנדסת המרחב:

### שאלות:

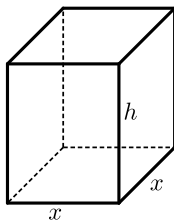
- (37) נתונה תיבה שבסיסה ריבוע ושטח הפנים שלה הוא 96 סמ"ר. מצא את מידות התיבה שנפחה מקסימלי.



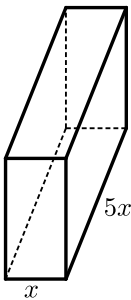
- (38) נתונה תיבה שבסיסה ריבוע ושטח פניה (ללא המכסה) הוא 75 סמ"ר. מצא את אורך צלע הבסיס של התיבה שנפחה הוא מקסימלי.



- (39) נתונה תיבה שבסיסה הוא מלבן שבו צלע אחת גדולה פי 2 מהצלע הסמוכה לה כמתואר באיור. ידוע כי גובה התיבה  $h$  וצלע המלבן הקטנה  $x$  מקיימים:  $x + h = 9$ . מצא מה צריכים להיות מידות בסיס התיבה כדי שנפחה יהיה מקסימלי.



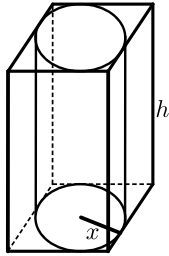
- (40) נתונה תיבה שגובהה הוא  $h$  ובסיסה הוא ריבוע שאורך צלעו היא  $x$ . נתון כי צלע הריבוע וגובה התיבה מקיימים:  $4x + h = 63$ .  
 א. הבע את  $h$  באמצעות  $x$ .  
 ב. הבע את שטח הפנים של התיבה באמצעות  $x$ .  
 ג. מה צריך להיות ערכו של  $x$  כדי ששטח הפנים יהיה מקסימלי?



- (41) ליוסי משטח פח אשר הוא רוצה לבנות תיבה ממנו שנפחה הכולל הוא 225 סמ"ק. יוסי רוצה שאורך הבסיס יהיה גדול פי 5 מרוחבו כמתואר באיור הסמוך. כמות הפח שיש בידי יוסי מוגבלת ולכן הוא רוצה לדעת מה היא הכמות המינימלית של פח שעליו להשתמש בכדי להשיג את מבוקשו. מצאו את כמות הפח המינימלית.

- (42) לבניית תיבה שנפחה 144 סמ"ק ואורך בסיסה גדול פי 2 מרוחב בסיסה דרושים שני חומרים להם שני מחירים שונים: החומר לבסיס התחתון יקר פי 3 מהחומר לפאות הצדדיות והבסיס העליון. מהן מידות התיבה הזולה ביותר שניתן לבנות?

43) מכל הגלילים הישרים שהיקף פרישת המעטפת שלהם הוא  $k$  מצא את נפחו של הגליל בעל הנפח המקסימלי.



44) באיור שלפניך מתוארים תיבה שבסיסה ריבוע וגליל החסום בתוך התיבה. רדיוס הגליל יסומן ב- $x$  וגובהו ב- $h$ . ידוע כי הסכום של  $x$  ו- $h$  הוא 12 ס"מ.

א. הבע באמצעות  $x$  את אורך מקצוע הבסיס של התיבה.  
ב. ענה על הסעיפים הבאים:

i. הבע באמצעות  $x$  את נפח הגליל.

ii. הבע באמצעות  $x$  את נפח התיבה.

ג. מצא את  $x$  עבורו הנפח הכלוא בין התיבה לגליל יהיה מקסימלי.

45) נתונה פירמידה מרובעת, משוכללת וישרה. אורך מקצוע צדדי בפירמידה הוא  $k$  ושטח המעטפת שלה הוא  $S$ . הוכח:  $S < 2k^2$ .

### תשובות סופיות:

37) 4·4·4 ס"מ.

38) 5 ס"מ.

39) בסיס: 6 ס"מ, 12 ס"מ. גובה: 3 ס"מ.

40) א.  $h = 63 - 4x$  ב.  $p = -14x^2 + 252x$  ג.  $x = 9$ .

41) 3 ס"מ, 15 ס"מ ו-5 ס"מ.

42) 8·6·3 ס"מ.

43)  $V = \frac{k^3}{216\pi}$  יחידות נפח.

44) א.  $2x$  ב. i.  $V = 12\pi x^2 - \pi x^3$  ii.  $V = 48x^2 - 4x^3$

ג.  $x = 8$ .

45) הוכחה.

## בעיות קיצון עם תשובה נתונה:

### שאלות:

#### בעיות קיצון בהנדסת המרחב:

(1) נתונים שני מספרים חיוביים  $p$  ו- $q$  שסכומם  $a$ .  
 הראה שכאשר מתקיים  $\frac{p}{q} = \frac{n}{m}$  ערך הביטוי  $p^n q^m$  ( $n$  ו- $m$  טבעיים) מקסימלי.

(2) הוכח שמכל החרוטים הישרים שנפחם  $\pi k$  סמ"ק, החרוט בעל שטח המעטפת המינימלי הוא זה שגובהו  $\sqrt[3]{6k}$  ס"מ.  
 (שטח מעטפת של חרוט הוא  $\pi Rl$ , כאשר  $l$  הוא הקו היוצר של החרוט).

#### בעיית קיצון עם תנועה:

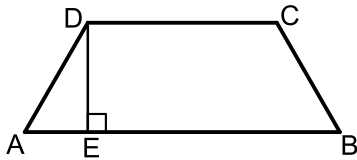
(3) מהירותו של רכב היא  $v$  קמ"ש ועליו לנסוע דרך של  $S$  ק"מ.  
 לרכב יש הוצאות נסיעה של  $\frac{v}{400}$  ש"ח לכל ק"מ נסיעה ו- $\frac{v^2}{200} + 48$  ש"ח לכל שעת נסיעה.  
 הראה שכדי שהוצאותיו יהיו מינימליות על הרכב לנסוע במהירות של 80 קמ"ש.

### תשובות סופיות:

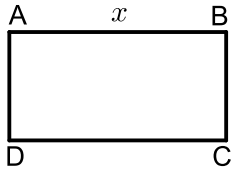
- (1) הוכחה.
- (2) הוכחה.
- (3) הוכחה.

## בעיות קיצון שונות בהנדסת המישור:

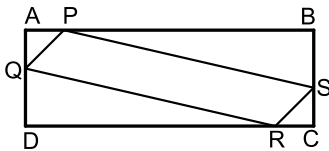
### שאלות:



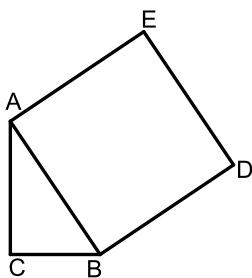
- (1) בטרפז שווה-שוקיים ABCD ( $AB \parallel CD$ ) אורך השוק הוא 4 ס"מ ואורך הבסיס הקטן הוא 6 ס"מ. DE הוא הגובה מקדקוד D (ראה ציור). מה צריך להיות אורך הקטע AE כדי ששטח הטרפז יהיה מקסימלי?



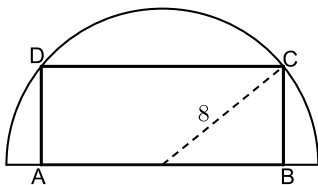
- (2) נתון מלבן ABCD . נסמן ב- $x$  את אחת מצלעות המלבן (ראה ציור). אם היקף המלבן הוא 60 ס"מ:  
א. בטא באמצעות  $x$  את שטח המלבן.  
ב. אם היקף המלבן הוא  $p$  מצא מה צריכות להיות אורכי צלעות המלבן כדי ששטחו יהיה מקסימלי. (הבע את אורכי הצלעות באמצעות  $p$ ).



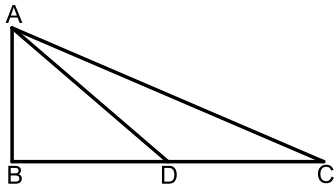
- (3) נתון מלבן ABCD כך ש- $AD = BC = 5$  ס"מ,  $AB = CD = 10$  ס"מ. על צלעות המלבן מקצים קטעים:  $AP = AQ = CS = CR = x$  (ראה ציור). מה צריך להיות ערכו של  $x$  כדי ששטח המקבילית PQRS יהיה מקסימלי?



- (4) במשולש ישר זווית  $\triangle ABC$  ( $\sphericalangle C = 90^\circ$ ) סכום אורכי הניצבים הוא 8 ס"מ. על היתר AB בונים ריבוע ABDE. מה צריכים להיות אורכי הניצבים כדי ששטח המחומש AEDBC יהיה מינימלי?



- (5) בחצי עיגול שרדיוסו 8 ס"מ חוסמים מלבן ABCD, כך שהצלע AB של המלבן מונחת על הקוטר, והקדקודים C ו-D מונחים על הקשת (ראה ציור). מה צריך להיות אורך הצלע AB כדי ששטח המלבן יהיה מקסימלי?

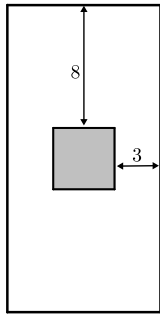


6) במשולש ישר-זווית  $\triangle ABC$  ( $\angle B = 90^\circ$ ),

סכום אורכי הניצבים הוא 30 ס"מ.

AD הוא תיכון לניצב BC.

חשב מה צריכים להיות אורכי הניצבים, על מנת שריבוע אורך התיכון יהיה מינימלי.

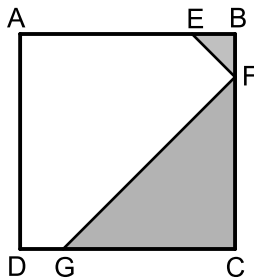


7) בחוברת פרסום, שטח כל עמוד הוא 600 סמ"ר.

רוחב השוליים בראש העמוד ובתחתיתו הוא 8 ס"מ,

ורוחב השוליים בצדדים הוא 3 ס"מ.

מצא מה צריך להיות האורך והרוחב של כל עמוד כדי שהשטח המיועד לדפוס יהיה מקסימלי (השטח המסומן בצירור).



8) בריבוע ABCD הנקודות E, F, G נמצאות על

הצלעות AB, BC, DC בהתאמה, כך

ש-  $BE = BF$ ,  $CF = CG$  (ראה ציור).

נתון כי האורך של צלע הריבוע הוא 6 ס"מ.

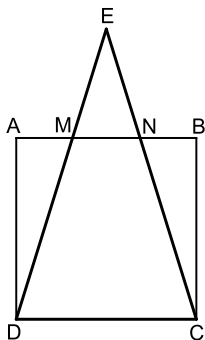
א. סמן ב- $x$  את BF ואת BE, והבע באמצעות  $x$

את הסכום של שטחי המשולשים EBF ו-FCG (השטח המסומן בצירור)

ב. ענה על הסעיפים הבאים:

i. מצא את  $x$  שעבורו סכום שטחי המשולשים הוא מינימלי.

ii. חשב את הסכום המינימלי של שטחי המשולשים.



9) נתון ריבוע ABCD שאורך צלעו 10 ס"מ.

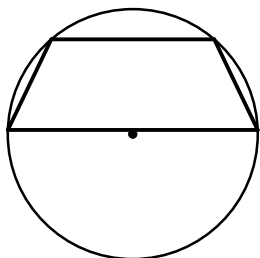
E היא נקודה כלשהי מחוץ לריבוע, כך שהמשולש DEC הוא

שווה שוקיים ( $ED = EC$ ).

שוקי המשולש חותכות את הצלע AB בנקודות M ו-N (ראה ציור).

מצא מה צריך להיות אורך הקטע AM כדי שהסכום של

שטחי המשולשים AMD, EMN, BNC יהיה מינימלי.



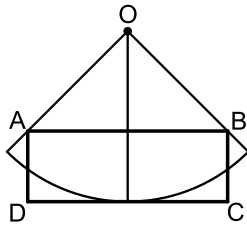
10) נתון מעגל שרדיוסו R. במעגל זה חסום טרפז שוו"ש,

כך שהבסיס הגדול של הטרפז הוא קוטר במעגל (ראה ציור).

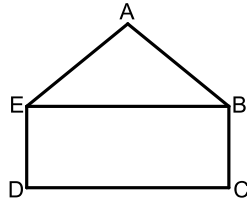
מבין כל הטרפזים החסומים באופן זה,

הבע באמצעות R את אורך הבסיס הקטן בטרפז

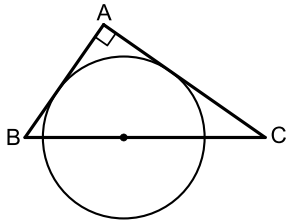
ששטחו מקסימלי.



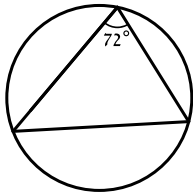
- 11** נתונה גזרה של רבע עיגול שמרכזו  $O$  ורדיוסו  $10$  ס"מ. בונים מלבן  $ABCD$ , כך שרבע המעגל משיק לצלע  $DC$  בנקודת האמצע שלה, והקדקודים  $A$  ו- $B$  נמצאים על הרדיוסים התוחמים את הגזרה (ראה ציור). מבין כל האלכסונים של המלבנים  $ABCD$  שנוצרים באופן זה, מצא את אורך האלכסון הקצר ביותר.



- 12**  $ABCDE$  הוא מחומש המורכב ממשולש  $ABE$  וממלבן  $EBCD$  (ראה ציור). נתון:  $BC = 2$  ס"מ,  $AB = AE = 4$  ס"מ. מצא את השטח של המחומש ששטחו מקסימלי.



- 13** מתבוננים בכל המשולשים ישרי הזווית  $ABC$  החוסמים חצי מעגל שרדיוסו  $R$  כמתואר בציור. מהן זוויות המשולש שסכום הניצבים שלו הוא מינימלי?



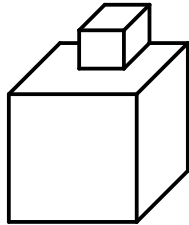
- 14** במעגל שרדיוסו  $R$  חסומים משולשים כך שהגודל של הזווית בכל אחד מהמשולשים הוא  $\frac{2\pi}{5}$ . מצא את הזוויות במשולש בעל ההיקף המקסימלי.

**תשובות סופיות:**

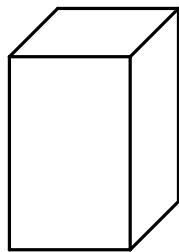
- (1)  $AE = 1.7$  ס"מ
- (2)  $x(30-x)$  א. ב. כל צלע שווה ל-  $0.25p$ .
- (3)  $x = 3.75$  ס"מ
- (4)  $AC = BC = 4$
- (5)  $AB = 2\sqrt{32}$
- (6)  $AB = 6$  ס"מ,  $BC = 24$  ס"מ
- (7) אורך: 40 ס"מ, רוחב: 15 ס"מ.
- (8) א.  $S = x^2 - 6x + 18$  ב. i.  $x = 3$  ב. ii. 9 סמ"ר.
- (9)  $AM = \frac{5}{\sqrt{2}}$
- (10)  $R =$  בסיס קטן
- (11)  $4\sqrt{5}$  ס"מ
- (12)  $12\sqrt{3}$  סמ"ר
- (13)  $45^\circ, 45^\circ, 90^\circ$
- (14)  $\frac{3}{10}\pi, \frac{3}{10}\pi, \frac{2}{5}\pi$

## בעיות קיצון שונות בהנדסת המרחב:

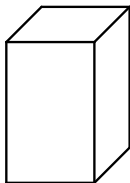
### שאלות:



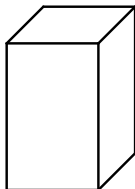
**15** גובהו של "מגדל" הבנוי משתי קוביות (לאו דווקא שוות) הוא 8 ס"מ.  
מה צריך להיות אורך המקצוע של הקובייה התחתונה כדי שנפח המגדל (סכום נפחי הקוביות) יהיה מינימלי?



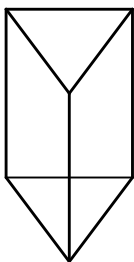
**16** בונים תיבה שגובהה  $y$  ס"מ, ובסיסה ריבוע, שאורך צלעו  $x$  ס"מ (ראה ציור), כך שההיקף של כל אחת מהדפנות הצדדיות שווה ל-12 ס"מ.  
מה צריך להיות אורך צלע הבסיס כדי שנפח התיבה יהיה מקסימלי?



**17** יש לבנות תיבה פתוחה מלמעלה, שבסיסה ריבוע ושטח פניה הוא 75 סמ"ר (במקרה זה שטח הפנים מורכב מבסיס אחד ומארבע פאות צדדיות). מכל התיבות שאפשר לבנות, מצא את ממדי התיבה (צלע הבסיס וגובה) שנפחה מקסימלי.

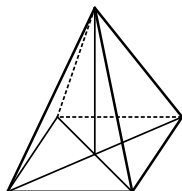


**18** יש להכין מחוט תיל "שלד" (מסגרת) של תיבה, שבסיסה ריבוע ונפחה 1000 סמ"ק.  
מהו האורך המינימלי של החוט הנחוץ ליצירת התיבה?

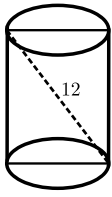


**19** מחוט שאורכו  $a$  ס"מ יש לבנות מנסרה משולשת ישרה, שבסיסה הוא משולש שווה צלעות. מצא איזה חלק מאורך החוט יש להקצות לצלע הבסיס  $x$  ואיזה חלק לגובה  $y$  כדי שיתקיים (בטא ע"י  $a$ ):  
א. שטח המעטפת של המנסרה יהיה מקסימלי.  
ב. נפח המנסרה יהיה מקסימלי.

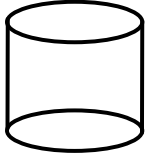
**20** מכל הפירמידות המרובעות, המשוכללות והישרות, שאורך המקצוע הצדדי שלהן הוא  $a$ , מצא את נפחה של הפירמידה בעלת הנפח המקסימלי.



**21** מכל הפירמידות הישרות, שבסיסן ריבוע ושטח הפנים שלהן הוא 200 סמ"ר, חשב את נפחה של הפירמידה בעלת הנפח המקסימלי.

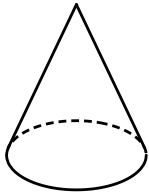


**(22)** אלכסון החתך הצירי של גליל ישר הוא 12 ס"מ (ראה ציור). מצא מה צריכים להיות גובה הגליל ורדיוס בסיסו כדי שנפחו יהיה מקסימלי.



**(23)** נתון מיכל גלילי פתוח מלמעלה שקיבולו 64 מ"ק. המיכל עשוי כולו מפח. הראה כי שטח הפח הוא מינימלי כאשר רדיוס הבסיס

$$\text{הוא } \frac{4}{\sqrt[3]{\pi}} \text{ מטר.}$$



**(24)** מבין כל החרוטים שאורך הקו היוצר שלהם הוא 10 ס"מ (ראה ציור), מהו נפח החרוט שנפחו מקסימלי?

### תשובות סופיות:

**(15)** 4 ס"מ.

**(16)** 4 ס"מ.

**(17)** צלע הבסיס: 5 ס"מ, גובה: 2.5 ס"מ.

**(18)** 120 ס"מ.

**(19)** א.  $x = \frac{1}{12}a$ ,  $y = \frac{1}{6}a$ . ב.  $x = y = \frac{1}{9}a$ .

**(20)**  $\frac{4\sqrt{3}}{27}a^3$ .

**(21)**  $\frac{500}{3}$  סמ"ק.

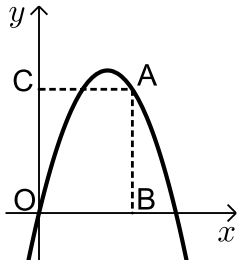
**(22)** גובה:  $\sqrt{48}$  ס"מ. רדיוס:  $\sqrt{24}$  ס"מ.

**(23)** הוכחה.

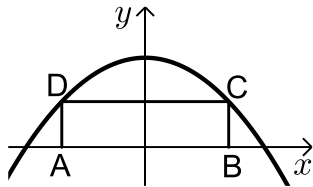
**(24)** 403.1 סמ"ק.

## בעיות קיצון שונות בפונקציות וגרפים:

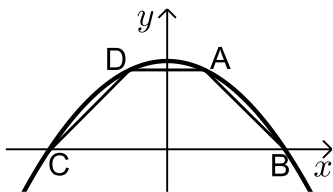
### שאלות:



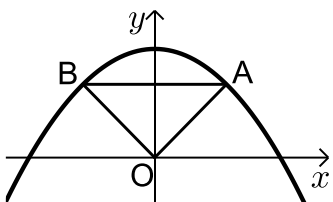
- (25)** מנקודה A, הנמצאת על גרף הפונקציה  $y = -x^2 + 5x$ , מורידים אנכים לצירים כך שנוצר מלבן ABCO (ראה ציור).  
 א. מה צריכים להיות שיעורי הנקודה A כדי שהיקף המלבן יהיה מקסימלי?  
 ב. מה צריכים להיות שיעורי הנקודה A כדי שהיקף המלבן יהיה מינימלי?



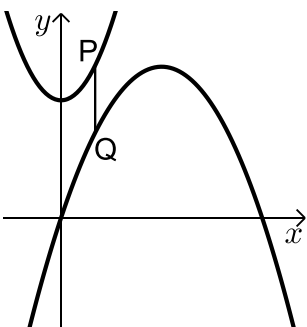
- (26)** בפרבולה  $y = 9 - x^2$  חוסמים מלבן ABCD, כך שהצלע AB מונחת על ציר ה-x (ראה ציור).  
 מה צריך להיות אורך הצלע CD כדי ששטח המלבן יהיה מקסימלי?



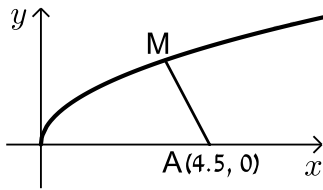
- (27)** טרפז ABCD חסום בין גרף הפרבולה  $y = 9 - x^2$  לבין ציר ה-x (ראה ציור).  
 א. מה צריכים להיות שיעורי הנקודה A כדי ששטח הטרפז ABCD יהיה מקסימלי?  
 ב. חשב את השטח המקסימלי של טרפז ABCD.



- (28)** נתונה הפרבולה  $y = -x^2 + 12$ . ישר המקביל לציר ה-x חותך את הפרבולה בנקודות A ו-B (ראה ציור).  
 מחברים את הנקודות A ו-B עם ראשית הצירים, O.  
 א. מה צריך להיות אורך הקטע AB כדי ששטח המשולש AOB יהיה מקסימלי?  
 ב. מהו השטח המקסימלי של המשולש AOB?

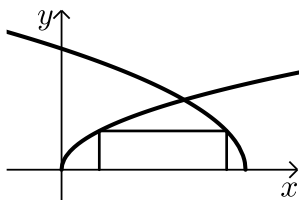


- (29)** נתונים הגרפים של שתי פרבולות:  $y = \frac{1}{2}x^2 + 7$  ו-  $y = -\frac{1}{4}x^2 + 3x - 1$ .  
 קו מקביל לציר ה-y חותך את שתי הפרבולות בנקודות P ו-Q (ראה ציור). מבין כל הקטעים המתקבלים באופן זה, מצא את האורך המינימלי של הקטע PQ.

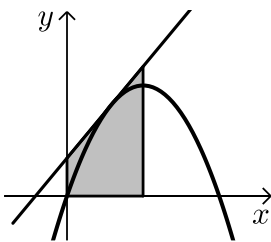


- 30** נתון גרף הפונקציה  $y = \sqrt{x}$ .  
על ציר ה- $x$  נתונה הנקודה  $A(4.5, 0)$  (ראה ציור).  
מצא על גרף הפונקציה נקודה  $M$ , כך שריבוע המרחק  $AM$  יהיה מינימלי.

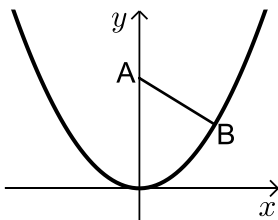
- 31** מצא על הישר  $y = 3x - 4$  את הנקודה הקרובה ביותר לנקודה  $(0, 1)$ .



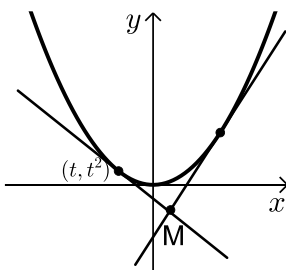
- 32** בציור שלפניך מתוארים הגרפים של הפונקציות:  $f(x) = \sqrt{3x}$ ,  $g(x) = \sqrt{36-6x}$ .  
מלבן חסום בין הגרפים של הפונקציות ובין ציר ה- $x$ , כמתואר בציור.  
מצא את השטח הגדול ביותר האפשרי למלבן שחסום באופן זה.



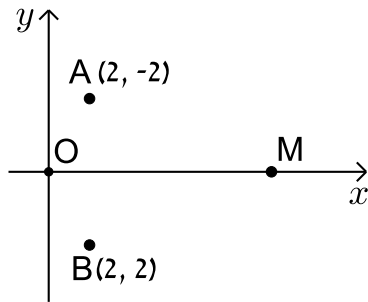
- 33** דרך איזו נקודה על הפרבולה  $y = -x^2 + 2x$  צריך להעביר משיק, כדי ששטח הטרפז, הנוצר על ידי המשיק והישרים:  $x = 0$ ,  $x = 1$ ,  $y = 0$  (השטח המסומן שבציור) יהיה מינימלי?



- 34** נקודה  $B$  נמצאת על גרף הפונקציה  $y = x^2$  ברביע הראשון.  $A$  היא הנקודה  $(0, a)$  כאשר ידוע כי  $a > 0.5$  (ראה ציור).  
א. בטא באמצעות  $a$  את שיעורי הנקודה  $B$ , שעבורה המרחק  $AB$  הוא מינימלי.  
ב. מצא עבור איזה ערך של  $a$  המרחק המינימלי הוא 2.



- 35** נתונה הפרבולה  $y = x^2$ , ונתון משיק לפרבולה שמשוואתו היא  $y = 6x - 9$ . בנקודה  $(t, t^2)$  שעל הפרבולה מעבירים משיק נוסף לפרבולה.  
המשיקים נחתכים בנקודה  $M$  (ראה ציור).  
א. הבע את משוואת המשיק הנוסף באמצעות  $t$ .  
ב. מצא את  $t$  שעבורו אורך הקטע, המחבר את הנקודה  $M$  עם קדקוד הפרבולה יהיה מינימלי.



**(36)** במערכת צירים נתונות הנקודות  $A(2, 2)$  ו-  $B(2, -2)$ . ראשית הצירים היא בנקודה  $O$ .  $M$  היא נקודה על ציר ה- $x$  בתחום  $x > 0$ . מה צריכים להיות שיעורי הנקודה  $M$ , כדי שהסכום:  $OM + MA + MB$  יהיה מינימלי?

### תשובות סופיות:

ב.  $A(0,0)$  או  $A(5,0)$ .

ב. 32.

ב.  $S_{\Delta AOB} = 16$ .

ב. 4.25.

ב.  $t = -\frac{3}{37}$ .

א.  $A(3,6)$  (25)

א.  $CD = 2\sqrt{3}$  (26)

א.  $A(1,8)$  (27)

א.  $AB = 4$  (28)

א.  $PQ = 4$  (29)

א.  $M(4,2)$  (30)

א.  $(1.5, 0.5)$  (31)

8 (32)

א.  $(0.5, 0.75)$  (33)

א.  $B\left(\sqrt{\frac{2a-1}{2}}, \frac{2a-1}{2}\right)$  (34)

א.  $y = 2xt - t^2$  (35)

א.  $M(0.845, 0)$  (36)

# קורס מתמטיקה להנדסאי טכנולוגיות מים

פרק 30 - חשבון אינטגרלי - האינטגרל הכללי

תוכן העניינים

- 484 ..... 1. חישובי אינטגרלים
- 489 ..... 2. מציאת פונקציה קדומה

## חישובי אינטגרלים:

### סיכום כללי:

#### הגדרה וכללי האינטגרציה:

- כלל האינטגרציה של פונקציה פולינומית:  $\int x^n dx = \frac{x^{n+1}}{n+1} + c, (n \neq -1)$
- עבור מקדם קבוע  $a$  נקבל:  $\int ax^n dx = \frac{ax^{n+1}}{n+1} + c, (n \neq -1)$
- כללי האינטגרציה של פונקציות טריגונומטריות:

$$\int \sin x dx = -\cos x + c, \quad \int \cos x dx = \sin x + c, \quad \int \frac{1}{\cos^2 x} dx = \tan x + c, \quad \int \frac{1}{\sin^2 x} dx = -\cot x + c$$

### שאלות:

#### 1 מצא את האינטגרלים הבאים:

א. $\int x^3 dx$	ב. $\int 12x^5 dx$
ג. $\int x^4 dx$	ד. $\int 2x^3 dx$
ה. $\int \frac{2}{3} x^5 dx$	ו. $\int 7 dx$
ז. $\int \left( \frac{5}{6} x^4 + 16x^3 - \frac{x^2}{2} + 4x - \frac{1}{3} \right) dx$	ח. $\int \left( \frac{4x^3}{5} - ax^2 - \frac{2ax}{b} + b \right) dx$

#### 2 מצא את האינטגרלים הבאים:

א. $\int x^{-3} dx$	ב. $\int \frac{1}{x^3} dx$
ג. $\int \left( \frac{1}{x^2} + \frac{3}{x^4} - \frac{a}{x^3} + \frac{x}{a} \right) dx$	ד. $\int \frac{2x^3 + x - 2}{x^3} dx$

(3) מצא את האינטגרלים הבאים:

$$\begin{array}{ll} \int \sqrt{x} dx & \text{ב.} \\ \int \left( \frac{4}{\sqrt{x}} + 3\sqrt{x} \right) dx & \text{ד.} \end{array} \quad \begin{array}{l} \int x^{\frac{1}{2}} dx \quad \text{א.} \\ \int \frac{1}{\sqrt{x}} dx \quad \text{ג.} \end{array}$$

(4) מצא את האינטגרלים הבאים:

$$\begin{array}{lll} \int \frac{18}{(6x+5)^2} dx & \text{ג.} & \int 3(2-7x)^4 dx \quad \text{ב.} & \int (5x-1)^3 dx \quad \text{א.} \\ & & \int \sqrt{ax+bdx} \quad \text{ה.} & \int \frac{1}{\sqrt{6x-3}} dx \quad \text{ד.} \end{array}$$

(5) מצא את תוצאת החילוק:

$$\begin{array}{ll} \frac{x^3+x^2+3x-5}{x-1} = & \text{ב.} \\ \frac{x^3-4x^2+9}{x-3} = & \text{ד.} \end{array} \quad \begin{array}{ll} \frac{x^2-5x-14}{x+2} = & \text{א.} \\ \frac{x^4+x^3-x^2+14x-3}{x+3} = & \text{ג.} \\ \frac{x^3+5x^2-4x-20}{x+5} = & \text{ה.} \end{array}$$

(6) מצא את האינטגרלים הבאים:

$$\begin{array}{ll} \int \frac{x^3+x^2+3x-5}{x-1} dx & \text{ב.} \\ \int \frac{x^3-4x^2+9}{x-3} dx & \text{ד.} \\ \int \frac{2x^5+x^4-4x^2+1}{2x+1} dx & \text{ו.} \end{array} \quad \begin{array}{ll} \int \frac{x^2-5x-14}{x+2} dx & \text{א.} \\ \int \frac{x^4+x^3-x^2+14x-3}{x+3} dx & \text{ג.} \\ \int \frac{x^3+5x^2-4x-20}{x+5} dx & \text{ה.} \end{array}$$

(7) מצא את האינטגרלים הבאים:

$$\begin{array}{ll} \int \frac{x^2}{(x^3+6)^2} dx & \text{ב.} \\ \int \frac{x}{\sqrt{x^2+2}} dx & \text{ד.} \\ \int 8x(x^2+1)^3 dx & \text{ו.} \end{array} \quad \begin{array}{ll} \int -\frac{2x}{(x^2-1)^2} dx & \text{א.} \\ \int \frac{x-2}{(x^2-4x+1)^2} dx & \text{ג.} \\ \int \frac{6x-3}{\sqrt{x-x^2}} dx & \text{ה.} \\ \int (2-x^2)(6x-x^3)^2 dx & \text{ז.} \end{array}$$

8) חשב את האינטגרלים הבאים :

א.  $\int \left( \sin x - 3 \cos x + \frac{4}{\cos^2 x} + 5 \right) dx$

ב.  $\int \left( \cos 3x - 2 \sin 4x + \frac{4}{\cos^2 3x} \right) dx$

ג.  $\int \left( \sin(\pi - x) + \frac{1 + \cos^2 x}{\cos^2 x} \right) dx$

9) חשב את האינטגרלים הבאים (שימוש בזהויות) :

א.  $\int (2 \sin x \cos x) dx$

ב.  $\int (\sin 3x \cos 3x) dx$

ג.  $\int (\sin^4 x - \cos^4 x) dx$

ד.  $\int (\sin^2 x) dx$

10) חשב את האינטגרלים הבאים :

א.  $\int \left( \frac{\cos x}{\sqrt{\sin x}} \right) dx$

ב.  $\int \left( \frac{\sin x}{\cos^2 x} \right) dx$

ג.  $\int (\cos x \sin^2 x) dx$

11) חשב את האינטגרלים הבאים :

א.  $\int \left( \sin 2x - 4 \cos \frac{x}{3} \right) dx$

ב.  $\int \frac{1}{\cos^2 4x} dx$

ג.  $\int \frac{1}{\sin^2 10x} dx$

ד.  $\int (\cos^2 x - \sin^2 x) dx$

ה.  $\int (\cos^4 x - \sin^4 x) dx$

ו.  $\int (\cos x + \sin x)^2 dx$

ז.  $\int (\sin x \cos x \cos(2x)) dx$

ח.  $\int \tan^2 x dx$

ט.  $\int \frac{1}{(\sin x \cos x)^2} dx$

י.  $\int \cos^2 x dx$

יא.  $\int \sin^2 4x dx$

(12) חשב את ערכי האינטגרלים הבאים (שאלות אתגר):

$$\int (\cos^4 x + \sin^4 x) dx \quad \text{א.} \quad \int \cos^4 x dx \quad \text{ב.}$$

$$\int \sin^4 4x dx \quad \text{ג.} \quad \int \frac{1 + \cos 2x}{1 - \cos 2x} dx \quad \text{ד.}$$

$$\int \frac{\sin^3 x}{1 - \cos x} dx \quad \text{ה.}$$

## תשובות סופיות:

$$(1) \quad \text{א.} \frac{x^4}{4} + c \quad \text{ב.} 2x^6 + c \quad \text{ג.} \frac{x^5}{5} + c \quad \text{ד.} \frac{x^4}{2} + c \quad \text{ה.} \frac{x^6}{9} + c \quad \text{ו.} 7x + c$$

$$\text{ז.} \frac{x^5}{6} + 4x^4 - \frac{x^3}{6} + 2x^2 - \frac{1}{3}x + c \quad \text{ח.} \frac{x^4}{5} - \frac{ax^3}{3} - \frac{ax^2}{b} + bx + c$$

$$(2) \quad \text{א.} -\frac{x^{-2}}{2} + c \quad \text{ב.} -\frac{1}{2x^2} + c \quad \text{ג.} -\frac{1}{x} - \frac{1}{x^3} + \frac{a}{2x^2} + \frac{x^2}{2a} + c \quad \text{ד.} 2x - \frac{1}{x} + \frac{1}{x^2} + c$$

$$(3) \quad \text{א.} \frac{x^{1.5}}{1.5} + c \quad \text{ב.} \frac{2}{3}\sqrt{x^3} + c \quad \text{ג.} 2\sqrt{x} + c \quad \text{ד.} 8\sqrt{x} + 2\sqrt{x^3} + c$$

$$(4) \quad \text{א.} \frac{(5x-1)^4}{20} + c \quad \text{ב.} -\frac{3(2-7x)^5}{35} + c \quad \text{ג.} -\frac{3}{6x+5} + c$$

$$\text{ד.} \frac{\sqrt{6x-3}}{3} + c \quad \text{ה.} \frac{2\sqrt{(ax+b)^3}}{3a} + c$$

$$(5) \quad \text{א.} x-7 \quad \text{ב.} x^2+2x+5 \quad \text{ג.} x^3-2x^2+5x-1$$

$$\text{ד.} x^2-x-3 \quad \text{ה.} x^2-4$$

$$\frac{x^4}{4} - \frac{2x^3}{3} + \frac{5x^2}{2} - x + c \quad \lambda \quad \frac{x^3}{3} + x^2 + 5x + c \quad \text{ב.} \quad \frac{x^2}{2} - 7x + c \quad \text{א.} \quad (6)$$

$$\cdot \frac{x^5}{5} - x^2 + x + c \quad \text{ו.} \quad \frac{x^3}{3} - 4x + c \quad \text{ה.} \quad \frac{x^3}{3} - \frac{x^2}{2} - 3x + c \quad \text{ז.}$$

$$-\frac{1}{2(x^2 - 4x + 1)} + c \quad \lambda \quad -\frac{1}{3(x^3 + 6)} + c \quad \text{ב.} \quad \frac{1}{x^2 - 1} + c \quad \text{א.} \quad (7)$$

$$(x^2 + 1)^4 + c \quad \text{ו.} \quad -6\sqrt{x - x^2} + c \quad \text{ה.} \quad \sqrt{x^2 + 2} + c \quad \text{ז.}$$

$$\cdot \frac{(6x - x^3)^3}{9} + c \quad \text{ט.}$$

$$\frac{\sin 3x}{3} + \frac{\cos 4x}{2} + \frac{4 \tan 3x}{3} + c \quad \text{ב.} \quad -\cos x - 3 \sin x + 4 \tan x + 5x + c \quad \text{א.} \quad (8)$$

$$\cdot \cos(\pi - x) + \tan x + x + c \quad \text{ג.}$$

$$-\frac{\sin 2x}{2} + c \quad \lambda \quad -\frac{\cos 6x}{12} + c \quad \text{ב.} \quad -\frac{1}{2} \cos 2x + c \quad \text{א.} \quad (9)$$

$$\cdot \frac{1}{2}x - \frac{1}{4} \sin 2x + c \quad \text{ז.}$$

$$\cdot \frac{1}{3} \sin^3 x + c \quad \lambda \quad \frac{1}{\cos x} + c \quad \text{ב.} \quad 2\sqrt{\sin x} + c \quad \text{א.} \quad (10)$$

$$-\frac{1}{10} \cot 10x + c \quad \lambda \quad \frac{1}{4} \tan 4x + c \quad \text{ב.} \quad -\frac{1}{2} \cos 2x - 12 \sin \frac{x}{3} + c \quad \text{א.} \quad (11)$$

$$x - \frac{1}{2} \cos 2x + c \quad \text{ו.} \quad \frac{1}{2} \sin 2x + c \quad \text{ה.} \quad \frac{1}{2} \sin 2x + c \quad \text{ז.}$$

$$\tan x - \cot x + c \quad \text{ט.} \quad \tan x - x + c \quad \text{ח.} \quad -\frac{1}{16} \cos 4x + c \quad \text{ט.}$$

$$\frac{1}{2}x - \frac{1}{16} \sin 8x + c \quad \text{א.} \quad \frac{1}{2}x + \frac{1}{4} \sin 2x + c \quad \text{ז.}$$

$$\frac{3}{8}x + \frac{1}{4} \sin 2x + \frac{1}{32} \sin 4x + c \quad \text{ב.} \quad \frac{3}{4}x + \frac{1}{16} \sin 4x + c \quad \text{א.} \quad (12)$$

$$-\cot x - x + c \quad \text{ז.} \quad \frac{3}{8}x - \frac{1}{16} \sin 8x + \frac{1}{128} \sin 16x + c \quad \text{ג.}$$

$$-\cos x - \frac{1}{4} \cos 2x + c \quad \text{ה.}$$

## מציאת פונקציה קדומה:

### שאלות:

- (1) נתונה נגזרת של פונקציה:  $f'(x) = 3x^2 - 7$ . מצא את הפונקציה אם ידוע שהיא עוברת בנקודה  $(-1, 2)$ .
- (2) נתונה נגזרת של פונקציה:  $f'(x) = 2x - 6$ . מצא את הפונקציה בנקודת הקיצון שלה הוא 5.
- (3) הנגזרת של פונקציה  $f(x)$  היא:  $f'(x) = x^2 - 8x + 2$ . נתון:  $f(-2) = 1$ .
- א. מצא את  $f(x)$ .
- ב. מצא את משוואת המשיק לגרף הפונקציה בנקודה שבה  $x = 1$ .
- (4) נתונה הנגזרת של פונקציה  $f(x)$ :  $f'(x) = 9x^2 - 4$ . מצא את משוואת המשיק לגרף הפונקציה בנקודה שבה  $x = 1$ .
- א. מצא את משוואת המשיק לגרף הפונקציה בנקודה שבה  $x = 1$ .
- ב. מצא את  $f(x)$ .
- ג. מצא את נקודות החיתוך של המשיק עם הצירים.
- (5) הנגזרת של פונקציה  $f(x)$  היא:  $f'(x) = 2x - 3$ . מצא את שיעור ה- $x$  של נקודת ההשקה לפונקציה משיק ששיפועו הוא -3.
- א. מצא את שיעור ה- $x$  של נקודת ההשקה.
- ב. מצא את  $f(x)$  אם ידוע כי ערך הפונקציה באותה הנקודה הוא 7.
- (6) הנגזרת של פונקציה  $f(x)$  היא:  $f'(x) = -6x - 5$ . המשיק לפונקציה בנקודה A יוצר זווית של  $45^\circ$  עם הכיוון החיובי של ציר ה- $x$ .
- א. מצא את שיעור ה- $x$  של הנקודה A.
- ב. מצא את  $f(x)$  אם ידוע כי ערך הפונקציה באותה הנקודה הוא -6.
- ג. מצא את משוואת המשיק.

- (7) הנגזרת של פונקציה  $f(x)$  היא:  $f'(x) = 3x - 4$ .  
 הישר  $y = 2x + 5$  משיק לגרף הפונקציה. מצא את  $f(x)$ .

### תשובות סופיות:

- (1)  $f(x) = x^3 - 7x + 5$
- (2)  $f(x) = x^2 - 6x + 14$
- (3) א.  $f(x) = \frac{x^3}{3} - 4x^2 + 2x + 23\frac{2}{3}$  ב.  $y = -5x + 27$
- (4) א.  $y = 5x - 2$  ב.  $f(x) = 3x^3 - 4x + 4$  ג.  $(0, -2), (0.4, 0)$
- (5) א.  $x = 0$  ב.  $f(x) = x^2 - 3x + 7$
- (6) א.  $x = -1$  ב.  $f(x) = -3x^2 - 5x - 8$  ג.  $y = x - 5$
- (7)  $f(x) = \frac{3x^2}{2} - 4x + 11$

# קורס מתמטיקה להנדסאי טכנולוגיות מים

פרק 31 - חשבון אינטגרלי - האינטגרל המסוים וחישובי שטחים

תוכן העניינים

491	1. האינטגרל המסוים
493	2. חישובי שטחים יסודיים
499	3. חישובי שטחים יסודיים עם פרמטרים
501	4. חישובי שטחים כאשר נתונה נגזרת הפונקציה
504	5. חישובי שטחים עם פונקציה רציונאלית
506	6. חישובי שטחים עם פונקצית שורש
510	7. חישובי שטחים עם פונקציות טריגונומטריות
513	8. חישובי שטחים בין גרף הנגזרת והצירים

## האינטגרל המסוים:

### סיכום כללי:

תהא פונקציה  $f(x)$  שנגזרתה היא  $f'(x)$  ( $f(x)$  מוגדרת בתחום  $a \leq x \leq b$ ).  
 הקשר שבין האינטגרל המסוים לפונקציה קדומה הוא:  $\int_a^b f'(x) dx = f(b) - f(a)$ .

### הערה:

יש להשתמש בכל כללי האינטגרציה המיידיים של הפונקציות השונות אשר נלמדו.

### שאלות:

(1) חשב את ערכי הביטויים הבאים:

$$\int_{-4}^{-1} x^2(x-3) dx \quad \text{ב.}$$

$$\int_2^5 (x^2 + 5x) dx \quad \text{א.}$$

$$\int_{-1}^1 3(2x-1)^5 dx \quad \text{ד.}$$

$$\int_{-3}^3 (x^3 + 4x) dx \quad \text{ג.}$$

$$\int_1^4 \frac{x-1}{x^3} dx \quad \text{ו.}$$

$$\int_1^2 \frac{2}{(x-3)^2} dx \quad \text{ה.}$$

$$\int_3^4 \frac{3x^2 - 7x + 2}{x-2} dx \quad \text{ח.}$$

$$\int_{-3}^0 \frac{2x^2 + 7x - 4}{x+4} dx \quad \text{ז.}$$

$$\int_{-5}^0 \frac{3}{\sqrt{4-x}} dx \quad \text{י.}$$

$$\int_1^2 \sqrt{3x-1} dx \quad \text{ט.}$$

(2) חשב את ערכי הביטויים הבאים:

$$\int_0^{\pi} (\sin 2x + 1) dx \quad \text{ב.}$$

$$\int_0^{\pi} (\cos x) dx \quad \text{א.}$$

$$\int_0^{\frac{\pi}{3}} \left( \frac{3}{\cos^2 x} + 2 \right) dx \quad \text{ד.}$$

$$\int_{-\frac{\pi}{2}}^{\frac{\pi}{2}} (2 \sin x - 3 \cos 2x) dx \quad \text{ג.}$$

$$(3) \quad \int_1^a (4x-7) dx \text{ : לפניך האינטגרל הבא :}$$

מצא עבור אלו ערכים של  $a$  ערך האינטגרל יהיה שווה ל-1.

$$(4) \quad \int_a^2 (x-3x^2) dx \text{ : לפניך האינטגרל הבא :}$$

א. כתוב ביטוי לערך האינטגרל כתלות ב- $a$ .

ב. מצא עבור אלו ערכים של  $a$  ערך האינטגרל יהיה שווה ל- $\frac{a-12}{2}$ .

$$(5) \quad \int_a^{a+4} \left( \frac{1}{\sqrt{x-a}} - \frac{1}{\sqrt{x+1}} \right) dx \text{ : לפניך האינטגרל הבא :}$$

א. כתוב את ערך האינטגרל כתלות ב- $a$ .

ב. מצא את ערכו של  $a$  עבורו ערך האינטגרל יהיה שווה ל-2.

$$(6) \quad \int_0^a (\sin x + 2 \cos 2x) dx \text{ : לפניך האינטגרל הבא : } 0 < a < 3$$

מצא עבור אלו ערכים של  $a$  ערך האינטגרל יהיה שווה ל-1.

### תשובות סופיות:

$$(1) \quad \text{א. } 91.5 \quad \text{ב. } -126.75 \quad \text{ג. } 0 \quad \text{ד. } -182 \quad \text{ה. } 1$$

$$\text{ו. } \frac{9}{32} \quad \text{ז. } -12 \quad \text{ח. } 9.5 \quad \text{ט. } 1.856 \quad \text{י. } .6$$

$$(2) \quad \text{א. } 0 \quad \text{ב. } \pi \quad \text{ג. } 0 \quad \text{ד. } 3\sqrt{3} + \frac{2}{3}\pi \approx 7.29$$

$$(3) \quad a = 2, 1.5$$

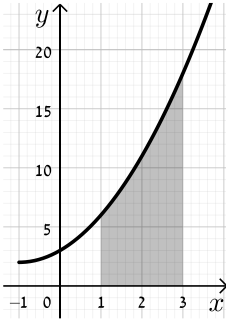
$$(4) \quad \text{א. } a^3 - \frac{1}{2}a^2 - 6 \quad \text{ב. } a = 0, 1, -\frac{1}{2}$$

$$(5) \quad \text{א. } 4 + 2(\sqrt{a+1} - \sqrt{a+5}) \quad \text{ב. } a = 1\frac{1}{4}$$

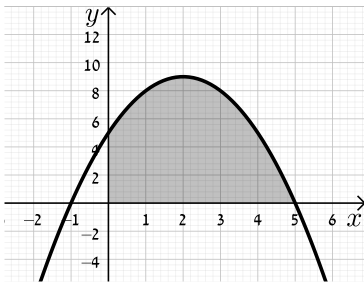
$$(6) \quad a = \frac{\pi}{6}, \frac{\pi}{2}, \frac{5\pi}{6}$$

## חישובי שטחים יסודיים:

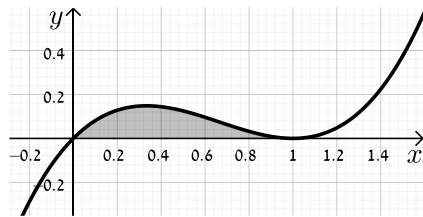
### שאלות:



- (1) חשב את השטח המוגבל בין גרף הפונקציה  $f(x) = x^2 + 2x + 3$ , ציר ה- $x$  והישרים  $x = 1$  ו- $x = 3$ .

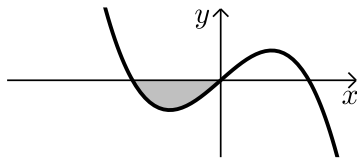


- (2) נתונה הפונקציה  $y = -x^2 + 4x + 5$ .  
 א. מצא את נקודות החיתוך של הפונקציה עם ציר ה- $x$ .  
 ב. מצא את השטח המוגבל בין גרף הפונקציה, ציר ה- $x$  וציר ה- $y$ .

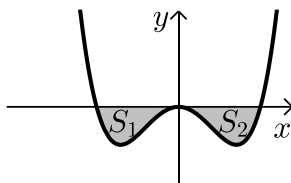


- (3) מצא את השטח המוגבל תחת הפונקציה  $f(x) = x^3 - 2x^2 + x$  וציר ה- $x$  כמתואר באיור.

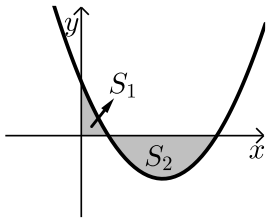
### שאלות עם שטח מתחת לציר ה- $x$ :



- (4) נתונה הפונקציה  $f(x) = x(4 - x^2)$ . חשב את השטח המוגבל שמתחת הפונקציה וציר ה- $x$  שברביע השלישי.



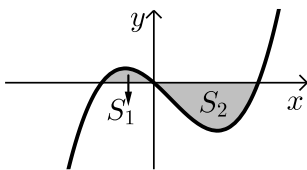
- (5) נתונה הפונקציה  $f(x) = \frac{1}{2}x^4 - 2x^2$ . חשב את השטח המוגבל שבין הפונקציה לציר ה- $x$ .



- 6) חשב את האינטגרל המסוים של הפונקציה  $y = x^2 - 6x + 5$  בין 0 ל-5. האם התוצאה מייצגת את סכום השטחים:  $S_1 + S_2$ ? אם כן, הסבר. אם לא, נמק וחשב את סכום זה.

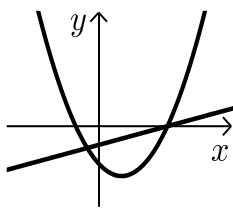
- 7) נתונה הפונקציה  $y = x^3 - x^2 - 2x$ .

יוצרים את השטחים  $S_1$  ו- $S_2$  בין גרף הפונקציה וציר ה- $x$  כמתואר באיור.

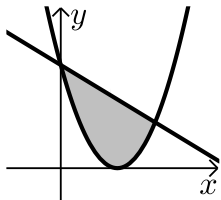


- א. מצא את נקודות החיתוך של הפונקציה עם ציר ה- $x$ .  
ב. חשב את השטח הכלוא בין גרף הפונקציה וציר ה- $x$ .

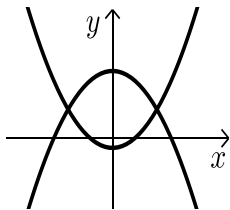
**שאלות עם שטחים בין שתי פונקציות:**



- 8) נתונות הפונקציות הבאות:  $f(x) = x^2 - 4x - 12$  ו- $g(x) = x - 6$ . חשב את גודל השטח הכלוא בין הגרפים של הפונקציות הנ"ל.



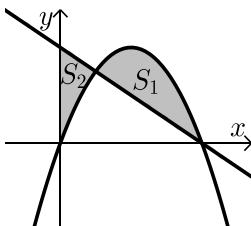
- 9) נתונות הפונקציות:  $y = (x-3)^2$ ,  $y = -x + 9$ . חשב את השטח המוגבל בין שתי הפונקציות.



- 10) נתונות הפונקציות:  $f(x) = x^2 - 1$ ,  $g(x) = 7 - x^2$ . חשב את גודל השטח הכלוא בין הגרפים של הפונקציות הנ"ל.

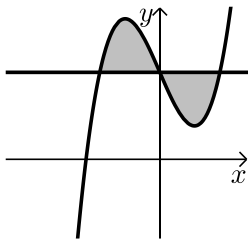
- 11) נתונות הפונקציות הבאות:  $f(x) = -x^2 + 4x$  ו- $g(x) = -x + 4$ .

מסמנים את השטח הכלוא בין שני הגרפים ב- $S_1$  ואת השטח הכלוא בין הגרפים וציר ה- $y$  ב- $S_2$  כמתואר באיור.

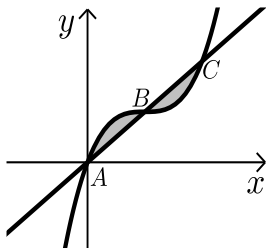


א. מצא את נקודות החיתוך של הפונקציות.

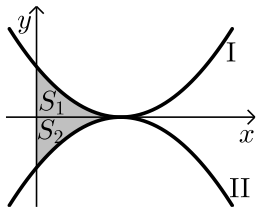
- ב. חשב את היחס שבין השטחים:  $\frac{S_1}{S_2}$ .



- 12** נתונה הפונקציה:  $f(x) = x^3 - 4x + 5$  והישר  $y = 5$ .  
 א. מצא את נקודות החיתוך של הפונקציה והישר.  
 ב. חשב את השטח המוגבל ביניהן.

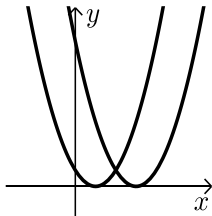


- 13** נתונה הפונקציה:  $f(x) = x^3 - 3x^2 + 3x$ .  
 הישר AC חותך את גרף הפונקציה בנקודות  
 הבאות:  $A(0,0)$ ,  $B(1,1)$ ,  $C(2,2)$ .  
 חשב את השטח המוגבל בין הפונקציה לישר AC.

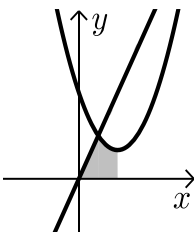


- 14** נתונות הפונקציות  $f(x) = (x-2)^2$  ו-  $g(x) = -(x-2)^2 - 1$  כמתואר באיור.  
 א. התאם בין הפונקציות לגרפים I ו-II.  
 ב. מסמנים את השטחים שבין כל פונקציה והצירים ב-  $S_1$  ו-  $S_2$  כמתואר באיור.  
 הראה כי השטחים  $S_1$  ו-  $S_2$  שווים זה לזה.

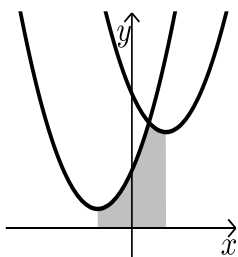
**שאלות עם שטחים מורכבים:**



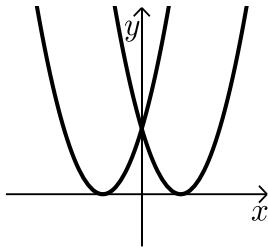
- 15** נתונות הפונקציות:  $f(x) = x^2 - 2x + 1$ ,  $g(x) = x^2 - 6x + 9$ .  
 חשב את גודל השטח הכלוא בין הפונקציות  
 ובין ציר ה- $x$ .



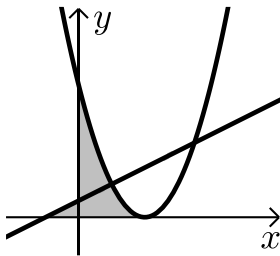
- 16** נתונות הפונקציות:  $y = x^2 - 4x + 6$ ,  $y = 3x$ .  
 א. מצא את קדקוד הפרבולה.  
 ב. מצא נקודת חיתוך של הפרבולה עם הישר  
 שמשמאל לקדקוד הפרבולה.  
 ג. חשב את השטח המסומן שבשרטוט.



- 17** נתונות הפונקציות:  $y = x^2 - 4x + 14$ ,  $y = x^2 + 4x + 6$ .  
 א. מצא את שיעורי ה- $x$  של קודקודי הפרבולות.  
 ב. חשב את נקודת החיתוך בין שתי הפונקציות.  
 ג. חשב את השטח המסומן בשרטוט.



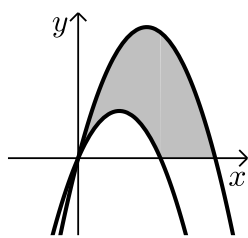
**(18)** נתונות הפונקציות:  $f(x) = (x-3)^2$ ,  $g(x) = (x+3)^2$ .  
חשב את השטח המוגבל בין שתי הפונקציות וציר ה- $x$ .



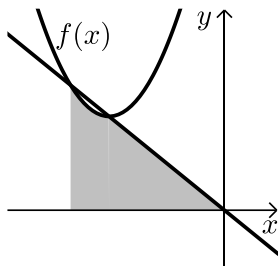
**(19)** נתונות שתי הפונקציות:  $y = \frac{1}{2}x + \frac{1}{2}$ ,  $y = (x-2)^2$ .

א. מצא את השטח המוגבל בין שתי הפונקציות לציר ה- $x$ .

ב. מצא את השטח המוגבל בין שתי הפונקציות לציר ה- $y$ .



**(20)** נתונות הפרבולות הבאות:  $f(x) = -x^2 + 5x$  ו- $g(x) = -x^2 + 3x$ .  
חשב את השטח המוגבל בין הגרפים של הפרבולות וציר ה- $x$ .



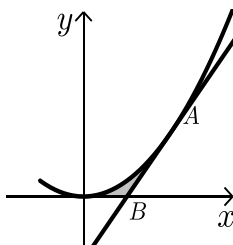
**(21)** נתונה הפונקציה:  $f(x) = x^2 + 6x + 12$ .

ישר העובר בראשית הצירים חותך את גרף הפונקציה בנקודה שבה  $x = -4$  כמתואר באיור.

א. מצא את משוואת הישר.

ב. מצא את נקודת החיתוך השנייה של הישר והפונקציה.

ג. מצא את השטח המוגבל בין הישר, גרף הפונקציה, ציר ה- $x$  והישר  $x = -4$ .

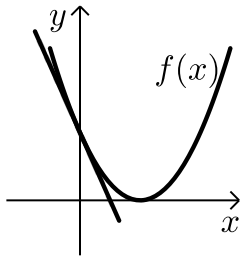


**(22)** נתונה הפונקציה:  $y = 2x^2$ .

מעבירים משיק לגרף הפונקציה מהנקודה:  $A(1,2)$ .

המשיק חותך את ציר ה- $x$  בנקודה  $B$ .

חשב את השטח המוגבל בין הפונקציה, המשיק וציר ה- $x$ .



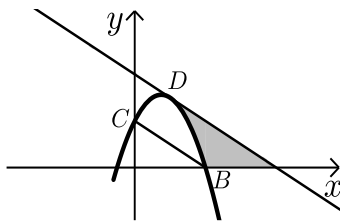
**(23)** נתונה הפונקציה:  $f(x) = (x-2)^2$ .

מנקודת החיתוך שלה עם ציר ה- $y$  מעבירים משיק.

א. מצא את משוואת המשיק.

ב. מצא את נקודת החיתוך של המשיק עם ציר ה- $x$ .

ג. חשב את השטח הכלוא בין המשיק, גרף הפונקציה וציר ה- $x$ .



**(24)** משוואת הפרבולה היא:  $f(x) = -2x^2 + 3x + 2$ .

הנקודות  $B(2,0)$ ,  $C(0,2)$  הן נקודות חיתוך

של הפרבולה עם הצירים.

המשיק לפרבולה בנקודה  $D$  מקביל לישר  $BC$ .

א. מצא את משוואת המשיק.

ב. מצא את השטח המוגבל בין הפרבולה, המשיק וציר ה- $x$ .

ג. מצא את השטח המוגבל בין הפרבולה, המשיק וציר ה- $y$ .

### תשובות סופיות:

(1)  $22\frac{2}{3}$  יח"ש.

(2) א.  $(-1,0)$ ,  $(5,0)$ . ב.  $33\frac{1}{3}$  יח"ש.

(3)  $\frac{1}{12}$  יח"ש.

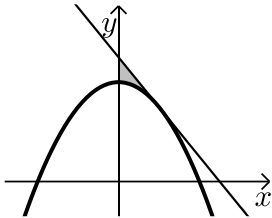
(4) 4 יח"ש.

(5)  $4\frac{4}{15}$  יח"ש.

- (6) לא. השטח הוא: 13 יח"ש.
- (7) א.  $(-1,0)$ ,  $(0,0)$ ,  $(2,0)$  ב.  $3\frac{1}{12}$  יח"ש.
- (8)  $57\frac{1}{6}$  יח"ש.
- (9)  $20\frac{5}{6}$  יח"ש.
- (10)  $21\frac{1}{3}$  יח"ש.
- (11) א.  $(1,3)$ ,  $(4,0)$  ב.  $2\frac{5}{11}$ .
- (12) א.  $(-2,5)$ ,  $(0,5)$ ,  $(2,5)$  ב. 8 יח"ש.
- (13) 0.5 יח"ש.
- (14) א.  $f(x)=I$ ,  $g(x)=II$  ב. הוכחה.
- (15)  $\frac{2}{3}$  יח"ש.
- (16) א.  $(2,2)$  ב.  $(1,3)$  ג.  $3\frac{5}{6}$  יח"ש.
- (17) א.  $x=2$ ,  $x=-2$  ב.  $(1,11)$  ג.  $25\frac{1}{3}$  יח"ש.
- (18) 18 יח"ש.
- (19) א.  $\frac{4}{3}$  יח"ש ב.  $1\frac{7}{12}$  יח"ש.
- (20)  $16\frac{1}{3}$  יח"ש.
- (21) א.  $y=-x$  ב.  $(-3,3)$  ג.  $7\frac{5}{6}$  יח"ש.
- (22)  $\frac{1}{6}$  יח"ש.
- (23) א.  $y=-4x+4$  ב.  $(1,0)$  ג.  $\frac{2}{3}$  יח"ש.
- (24) א.  $y=-x+4$  ב.  $2\frac{2}{3}$  יח"ש. ג.  $\frac{2}{3}$  יח"ש.

## חישובי שטחים יסודיים עם פרמטרים:

### שאלות:

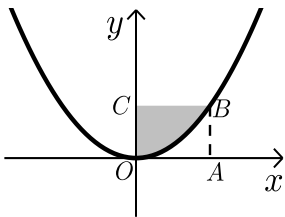


(25) נתונה הפרבולה:  $y = ax^2 + 8$ .

שיפוע המשיק לגרף הפרבולה בנקודה שבה  $x = 2$  הוא  $-2$ .

א. חשב את  $a$ .

ב. חשב את השטח המוגבל על ידי המשיק, הפרבולה וציר  $y$ .



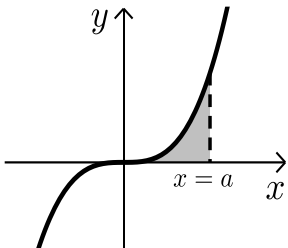
(26) הפונקציה המתוארת בשרטוט היא:  $y = ax^2$  ( $a$  פרמטר).

המרובע ABCO הוא ריבוע.

הקדקוד B נמצא על גרף הפונקציה.

ידוע כי אורך צלע הריבוע היא 2 יחידות.

מצא את ערך הפרמטר  $a$  ואת השטח המסומן בשרטוט.



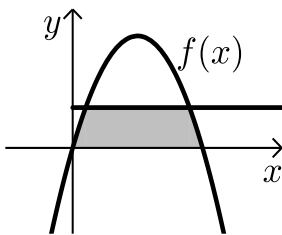
(27) נתונה הפונקציה  $y = x^3$ .

מעבירים אנך לציר ה- $x$ :  $x = a$  ( $a$  פרמטר חיובי)

כך שנוצר שטח הכלוא בין האנך, גרף הפונקציה וציר ה- $x$ .

א. הבע באמצעות  $a$  את השטח המקווקו בציור.

ב. חשב את  $a$  אם ידוע כי שטח זה שווה ל- $a^2$ .



(28) נתונה הפונקציה:  $f(x) = kx - x^2$ .

הישר  $y = 9$  חותך את גרף הפונקציה בשתי נקודות.

ידוע כי שיעור ה- $x$  של אחת מנקודות החיתוך

הוא  $x = 9$ .

א. מצא את ערך הפרמטר  $k$ .

ב. מצא את נקודת החיתוך השנייה בין שני הגרפים.

ג. חשב את השטח המוגבל בין גרף הפונקציה,

הישר וציר ה- $x$  (השטח המסומן).

**תשובות סופיות:**

$$\text{(25) א. } a = -\frac{1}{2} \quad \text{ב. } \frac{4}{3} \text{ יח"ש.}$$

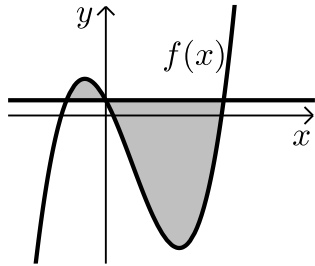
$$\text{(26) } a = \frac{1}{2}, \quad 2\frac{2}{3} \text{ יח"ש.}$$

$$\text{(27) א. } \frac{a^4}{4} \quad \text{ב. } a = 2$$

$$\text{(28) א. } k = 10 \quad \text{ב. } (1, 9) \quad \text{ג. } 81\frac{1}{3} \text{ יח"ש.}$$

## חישובי שטחים כאשר נתונה נגזרת הפונקציה:

### שאלות:



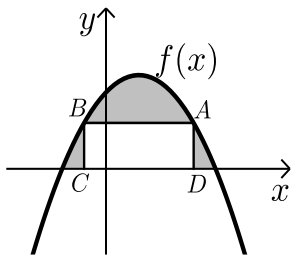
29 נגזרת הפונקציה  $f(x)$  היא:  $f'(x) = 3x^2 - 8x - 12$ .

הישר  $y = 5$  חותך את גרף הפונקציה  $f(x)$  על ציר ה- $y$ .

א. מצא את הפונקציה  $f(x)$ .

ב. מצא את השטח המוגבל בין הישר והפונקציה.

30 הנגזרת של הפונקציה  $f(x)$  המתוארת באיור שלפניך היא:  $f'(x) = 3 - 2x$ .



ישר AB שמשוואתו:  $y = 6$  חותך את גרף הפונקציה  $f(x)$  בנקודות A ו-B.

מנקודות אלו מורידים אנכים לציר ה- $x$  כך שנוצר מלבן ABCD.

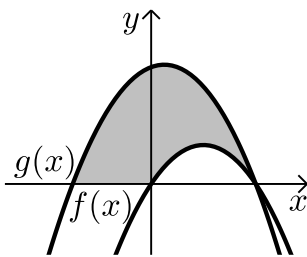
ידוע ששיעור ה- $x$  של הנקודה A הוא 4.

א. מצא את הפונקציה  $f(x)$ .

ב. חשב את השטח הכלוא בין גרף הפונקציה, המלבן וציר ה- $x$ .

31 באיור שלפניך מתוארות הפונקציות שנגזרותיהן:  $f'(x) = 4 - 2x$ ,  $g'(x) = -2x + 1$ .

ידוע ששתי הפונקציות חותכות את ציר ה- $x$  כאשר:  $x = 4$ .



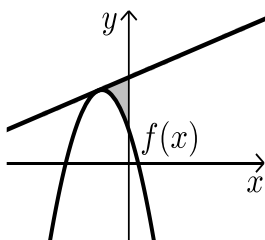
א. מצא את הפונקציות.

ב. חשב את השטח המוגבל בין הגרפים של שתי

הפונקציות וציר ה- $x$  (המסומן).

32 נתונה פונקציה  $f(x)$ .

משוואת המשיק לפונקציה  $f(x)$  בנקודה שבה:  $x = -2$  היא:  $y = x + 13$ .



הנגזרת של הפונקציה היא:  $f'(x) = -4x - 7$ .

א. מצא את הפונקציה  $f(x)$ .

ב. חשב את השטח הכלוא בין המשיק,

גרף הפונקציה וציר ה- $y$ .

**33** נתונה פונקציה  $f(x)$  שנגזרתה היא:  $f'(x) = 3x^2 - 6x - 9$ .

ישר ששיפועו 15 משיק לפונקציה ברביע הרביעי בנקודה שבה:  $y = -20$ .

א. מצא את הפונקציה  $f(x)$ .

ב. האם יש עוד משיקים לגרף הפונקציה בעלי שיפוע 15? אם כן- מצא אותם.

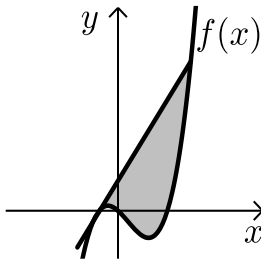
ג. ענה על הסעיפים הבאים:

i. הראה כי הנקודה שבה  $x = 7$  משותפת למשיק

שמצאת בסעיף הקודם ולפונקציה  $f(x)$ .

ii. מצא את השטח הכלוא בין גרף הפונקציה

והמשיק שמצאת בסעיף הקודם (ראה איור).



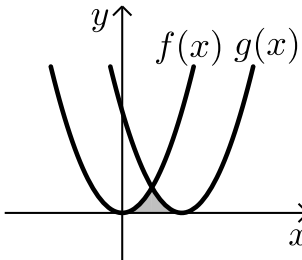
**34** באיור שלפניך חותך גרף הפונקציה:  $f(x) = x^2$

את גרף הפונקציה  $g(x)$  בנקודה שבה  $x = 2$ .

הנגזרת של הפונקציה  $g(x)$  היא:  $g'(x) = 2x - 8$ .

א. מצא את הפונקציה  $g(x)$ .

ב. חשב את השטח הכלוא בין שני הגרפים וציר ה- $x$  (המסומן).



**35** באיור שלפניך מתוארים גרף הפונקציה  $f(x)$  והישר  $y = 2x$ .

נגזרת הפונקציה  $f(x)$  היא:  $f'(x) = 2x - 6$

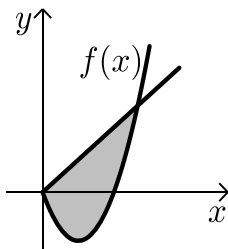
וידוע כי הישר חותך את הפונקציה בנקודה שבה ערך

ה- $y$  הוא 16.

א. מצא את הפונקציה  $f(x)$ .

ב. האם יש לגרף הפונקציה ולישר עוד נקודות חיתוך? אם כן מצא אותן.

ג. חשב את השטח המוגבל בין גרף הפונקציה והישר.



## תשובות סופיות:

(29) א.  $f(x) = x^3 - 4x^2 - 12x + 5$  ב.  $189\frac{1}{3}$  יח"ש.

(30) א.  $f(x) = -x^2 + 3x + 10$  ב.  $27\frac{1}{6}$  יח"ש.

(31) א.  $f(x) = 4x - x^2$ ,  $g(x) = -x^2 + x + 12$  ב. 46.5 יח"ש.

(32) א.  $f(x) = -2x^2 - 7x + 5$  ב.  $5\frac{1}{3}$  יח"ש.

(33) א.  $f(x) = x^3 - 3x^2 - 9x$  ב.  $y = 15x + 28$

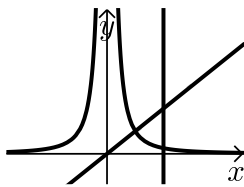
ג. i. (7,133) ג. ii. 546.75 יח"ש.

(34) א.  $g(x) = (x-4)^2$  ב.  $5\frac{1}{3}$  יח"ש.

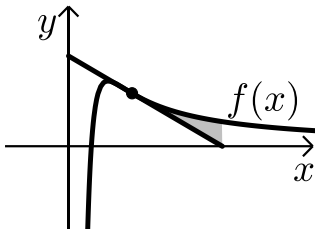
(35) א.  $f(x) = x^2 - 6x$  ב. (0,0) ג.  $85\frac{1}{3}$  יח"ש.

## חישובי שטחים עם פונקציה רציונאלית:

### שאלות:

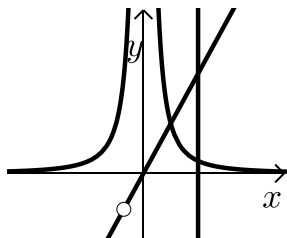


- (1) נתונות שתי פונקציות:  $f(x) = \frac{1}{x^2}$ ,  $g(x) = x$ .  
חשב את גודל השטח הכלוא בין הפונקציות,  
הישר  $x=2$  וציר ה- $x$ .



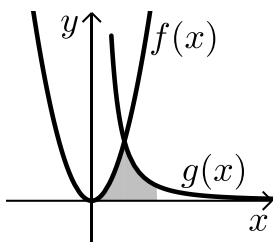
- (2) ענה על הסעיפים הבאים:

- א. מבין כל המשיקים לגרף הפונקציה:  $f(x) = \frac{2}{x^2} - \frac{1}{x^3}$ , מצא את משוואת המשיק ששיפועו מינימלי.  
ב. באיור שלפניך מתוארים הגרפים של הפונקציה והמשיק שמצאת בסעיף א'.  
חשב את השטח הכלוא בין גרף הפונקציה, המשיק ואנך לציר ה- $x$  היוצא מנקודת החיתוך של המשיק עם ציר ה- $x$ .



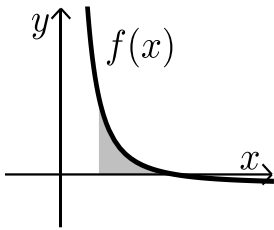
- (3) נתונות שתי פונקציות:  $f(x) = \frac{1}{x^2}$ ,  $g(x) = \frac{x^2 + 2x}{x + 2}$ .  
חשב את גודל השטח הכלוא בין הפונקציות,  
הישר  $x=2$  וציר ה- $x$ .

- (4) באיור שלפניך מתוארים הגרפים של הפונקציות:  $f(x) = 2x^2$  ו- $g(x) = \frac{a}{x^2}$



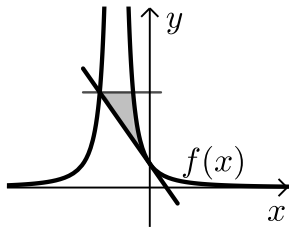
- ( $a$  קבוע) בתחום:  $x > 0$ .  
ידוע כי הגרפים נחתכים ברביע הראשון בנקודה הנמצאת על הישר:  $y = 4x$ .  
א. מצא את נקודת החיתוך של הגרפים ואת  $a$ .  
ב. חשב את השטח המוגבל בין שני הגרפים, ציר ה- $x$  והישר:  $x = 4$ .

5) גרף הפונקציה:  $f(x) = \frac{a-x^2}{x^2}$  (קבוע  $a$ ) חותך את ציר ה- $x$  בנקודה  $(6,0)$ .



- א. מצא את  $a$  וכתוב את הפונקציה.
- ב. חשב את השטח המוגבל בין גרף הפונקציה, ציר ה- $x$  והישר:  $x=2$ .

6) נתונה הפונקציה:  $f(x) = \frac{A}{(2x+A)^2}$  ( $A$  פרמטר חיובי).



ידוע כי שיפוע הפונקציה בנקודת החיתוך שלה עם ציר ה- $y$  הוא:  $-\frac{1}{9}$ .

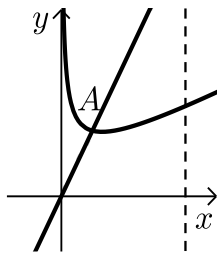
- א. מצא את ערך הפרמטר  $A$ .
- ב. כתוב את משוואת המשיק לגרף הפונקציה בנקודת החיתוך עם ציר ה- $y$ .
- ג. הראה כי המשיק חותך את גרף הפונקציה בנקודה שבה:  $x = -4.5$ .
- ד. העבר ישר אופקי מנקודת החיתוך של המשיק וגרף הפונקציה מהסעיף הקודם. מצא את נקודת החיתוך הנוספת של ישר זה עם גרף הפונקציה.
- ה. חשב את השטח כלוא בין המשיק, הישר וגרף הפונקציה (היעזר באיור).

### תשובות סופיות:

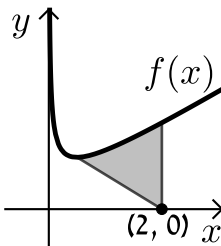
- 1) 1 יח"ש.
- 2) א.  $y = -x + 2$ .
- 3) 1 יח"ש.
- 4) א.  $a = 32$ ,  $(2,8)$ .
- 5) א.  $a = 36$ ,  $f(x) = \frac{36-x^2}{x^2}$ .
- 6) א.  $A = 6$ .
- ב.  $\frac{1}{8}$  יח"ש.
- ב.  $13\frac{1}{3}$  יח"ש.
- ב. 8 יח"ש.
- ב.  $y = -\frac{1}{9}x + \frac{1}{6}$ .
- ה.  $\frac{5}{8}$  יח"ש.
- ד.  $(-1.5, \frac{2}{3})$ .
- ג. הוכחה.

## חישובי שטחים עם פונקצית שורש:

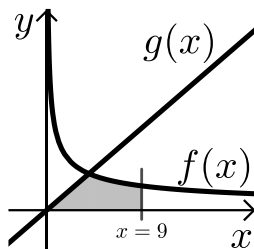
### שאלות:



- (1) באיור שלפניך נתונה הפונקציה:  $f(x) = \frac{3}{\sqrt{x}} + x$ .  
 מעבירים ישר:  $y = 4x$  החותך את גרף הפונקציה  
 בנקודה A המסומנת באיור.  
 א. מצא את שיעורי הנקודה A.  
 ב. חשב את השטח הכלוא בין גרף הפונקציה  $f(x)$ ,  
 הישר  $y = 4x$ , ציר ה- $x$  ואנך לציר ה- $x$ :  $x = 4$ .

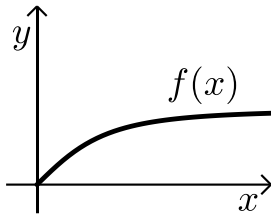


- (2) באיור שלפניך נתונה הפונקציה:  $f(x) = \frac{1}{\sqrt{2x}} + x$ .  
 א. מצא את נקודת המינימום שלה.  
 ב. מנקודת המינימום של הפונקציה מעבירים  
 ישר לנקודה  $(2, 0)$  שעל ציר ה- $x$ .  
 מצא את השטח הכלוא בין גרף הפונקציה, הישר ואנך לציר ה- $x$   
 היוצא מהנקודה  $(2, 0)$  עד לנקודת החיתוך עם גרף הפונקציה.

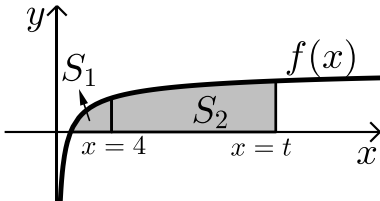


- (3) באיור הבא מתוארים הגרפים של  
 הפונקציות:  $f(x) = \frac{16}{\sqrt{x}}$  ו- $g(x) = 2x - 1$ .  
 א. מצא את נקודת החיתוך של הגרפים.  
 ב. חשב את השטח המוגבל בין שני הגרפים,  
 ציר ה- $x$  והישר  $x = 9$ .

- (4) נתונה הפונקציה:  $f(x) = (x - 6)\sqrt{x}$ .  
 חשב את גודל השטח הכלוא בין הפונקציה, המשיק לפונקציה בנקודת  
 המינימום שלה וציר ה- $y$ .



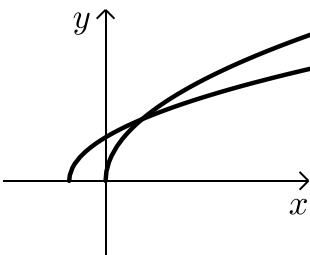
- (5) נתונה הפונקציה  $f(x) = \frac{x}{\sqrt{x^2+1}}$  ברביע הראשון. לפונקציה העבירו משיק העובר בראשית הצירים. חשב את גודל השטח הכלוא בין הפונקציה, המשיק והישר  $x = \sqrt{3}$ .



- (6) באיור שלפניך מתואר גרף הפונקציה:  $f(x) = 1 - \frac{1}{\sqrt{x}}$ . מעבירים שני אנכים לציר ה- $x$  והם:  $x = 4$  ו- $x = t$  ( $t > 4$ ). נסמן:  
 $S_1$  - השטח הכלוא בין גרף הפונקציה וציר ה- $x$ .  
 $S_2$  - השטח הכלוא בין גרף הפונקציה, ציר ה- $x$  והאנכים. ידוע כי:  $8S_1 = S_2$ . מצא את  $t$ .

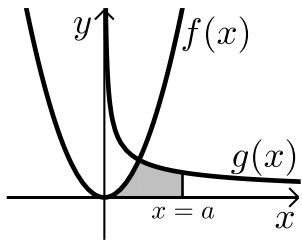
(7) נתונה הפונקציה:  $f(x) = \frac{x\sqrt{x}-8}{\sqrt{x}}$

- א. ענה על הסעיפים הבאים:  
 i. מצא את תחום ההגדרה של הפונקציה.  
 ii. מצא את נקודת החיתוך של הפונקציה עם ציר ה- $x$ .  
 iii. הראה כי הפונקציה עולה בכל תחום הגדרתה.  
 ב. מעבירים משיק לגרף הפונקציה ששיפועו הוא:  $m = \frac{17}{16}$ . מצא את נקודת ההשקה.  
 ג. חשב את השטח הכלוא בין גרף הפונקציה, ציר ה- $x$  ואנך לציר ה- $x$  מנקודת ההשקה שמצאת בסעיף הקודם.



- (8) נתונות שתי פונקציות:  $f(x) = \sqrt{x+b}$ ,  $g(x) = \sqrt{2x}$  ( $b > 0$ ). גודל השטח הכלוא בין הפונקציות וציר ה- $x$  הוא  $2\frac{2}{3}$  יח"ש. מצא את ערכו של הפרמטר  $b$ .

9) באיור שלפניך מתוארים הגרפים של הפונקציות:  $f(x) = x^2$



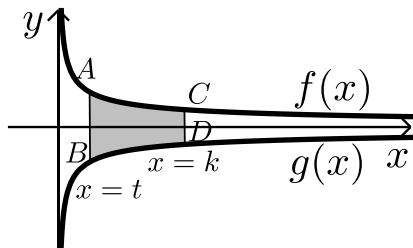
ו-  $g(x) = \frac{32}{\sqrt{x}}$  ברביע הראשון.

מעבירים ישר  $x=a$  החותך את גרף הפונקציה  $g(x)$  ויוצר את השטח הכלוא בין שני הגרפים, ציר ה- $x$  והישר.

ידוע כי שטח זה שווה ל-  $S = 85\frac{1}{3}$ .

מצא את  $a$ .

10) באיור שלפניך מתוארים הגרפים של הפונקציות:  $f(x) = \frac{3}{\sqrt{x}}$  ו-  $g(x) = -\frac{3}{\sqrt{x}}$



מעבירים שני ישרים:  $x=k$  ו-  $x=t$  אשר חותכים את הגרפים של הפונקציות ויוצרים את הקטעים AB ו-CD.

ידוע כי:  $2CD=AB$ .

א. הראה כי:  $k=4t$ .

ב. השטח הכלוא בין הגרפים של הפונקציות

והישרים:  $x=t$  ו-  $x=k$  הוא:  $S=12$ .

מצא את  $t$ .

11) ענה על הסעיפים הבאים:

א. מצא עבור איזה ערך של  $a$ ,  $(a > 1)$  יתקיים:  $\int_1^a \left( \frac{3}{\sqrt{2x-1}} - 1 \right) dx = 0$ .

ב. באיור שלפניך מתואר גרף הפונקציה:  $f(x) = \frac{3}{\sqrt{2x-1}} - 1$

מעבירים שני אנכים לציר ה- $x$  והם:  $x=1$  ו-  $x=13$

כך שנוצרים השטחים  $S_1$  ו-  $S_2$ .

מצא את נקודת החיתוך של הפונקציה עם ציר ה- $x$

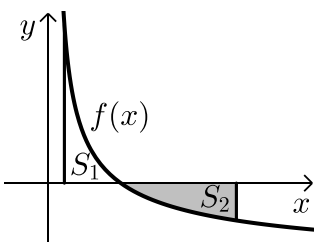
ג. ענה על הסעיפים הבאים:

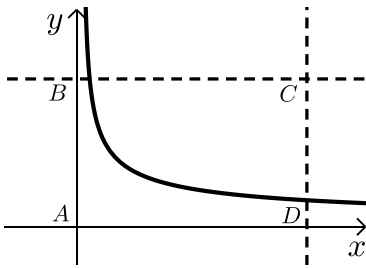
i. חשב את השטח הכלוא בין גרף הפונקציה,

ציר ה- $x$  והאנך  $x=1$ ,  $(S_1)$ .

ii. היעזר בתוצאה שקיבלת ובסעיף א' וקבע לכמה שווה השטח  $S_2$ .

נמק את טענתך.





(12) באיור שלפניך מתוארת הפונקציה:  $f(x) = \frac{9}{\sqrt{2x-1}}$

מעבירים את הישרים המקבילים לצירים:  $x = 13$

ו-  $y = 3$  כך שנוצר המלבן ABCD כמתואר באיור.

הישר  $y = 3$  חותך את גרף הפונקציה בנקודה M.

א. מצא את שיעורי הנקודה M.

ב. מסמנים את השטח הכלוא בין גרף הפונקציה

והישרים ב-  $S_1$  ואת שטח המלבן ב-  $S_2$ .

$$\text{הראה כי: } \frac{S_1}{S_2} = \frac{2}{13}$$

### תשובות סופיות:

(1) א.  $A(1,4)$  ב. 15.5 יח"ש.

(2) א.  $\min(0.5, 1.5)$  ב. 1.75 יח"ש.

(3) א.  $(4,8)$  ב. 48 יח"ש.

(4) 2.26 יח"ש.

(5) 0.5 יח"ש

(6)  $t = 16$

(7) א. i.  $x > 0$  ii.  $(4,0)$  iii.  $f'(x) = 1 + \frac{4}{x\sqrt{x}} > 0$

ב.  $(16,14)$  ג. 88 יח"ש.

(8)  $b = 2$

(9)  $a = 9$

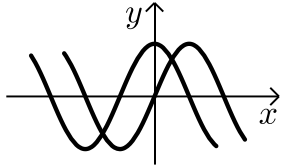
(10) א. הוכחה ב.  $t = 1$

(11) א.  $a = 13$  ב.  $(5,0)$  ג. i.  $S_1 = 2$  ii.  $S_2 = |-S_1| = 2$

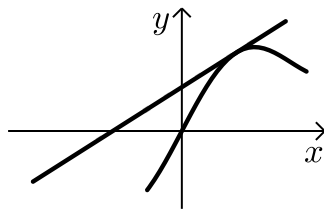
(12) א.  $M(5,3)$

## חישובי שטחים עם פונקציות טריגונומטריות:

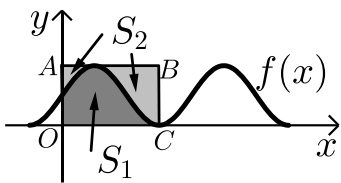
### שאלות:



- (1) נתונות הפונקציות:  $f(x) = \sin x$ ,  $g(x) = \cos x$ .  
חשב את גודל השטח הכלוא בין הפונקציות לציר ה- $y$  ברביע הראשון.

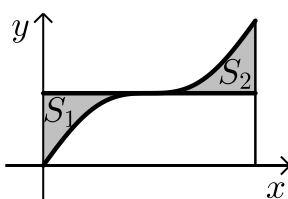


- (2) נתונה הפונקציה:  $f(x) = x + 2 \sin x$ .  
בתחום שבין ראשית הצירים לנקודת המקסימום הראשונה מימינה העבירו לפונקציה משיק ששיפועו 1.  
א. מצא את משוואת המשיק.  
ב. חשב את גודל השטח הכלוא בין הפונקציה, המשיק וציר ה- $x$  ברביעים הראשון והשני.

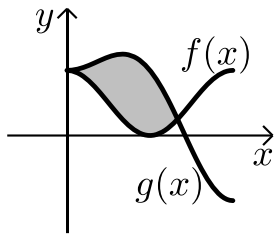


- (3) באיור שלפניך מתואר גרף הפונקציה:  $f(x) = \frac{\sin 2x + 1}{2}$ .  
בתחום:  $-0.25\pi \leq x \leq 1.75\pi$  מעבירים משיק  $AB$  דרך נקודת המקסימום של הפונקציה ומעלים אנך לציר ה- $x$  מנקודת החיתוך הראשונה של גרף הפונקציה עם ציר ה- $x$  בתחום הנתון המסומנת ב- $C$  כך שנוצר המלבן  $ABCO$ .  
השטח הכלוא בין גרף הפונקציה והצירים יסומן ב- $S_1$  (ראה סימון בציור).  
השטח הכלוא בין צלעות המלבן, גרף הפונקציה וציר ה- $y$  יסומן ב- $S_2$ .  
א. מצא את משוואת הצלע  $AB$  של המלבן.  
ב. חשב את היחס:  $\frac{S_1}{S_2}$ .

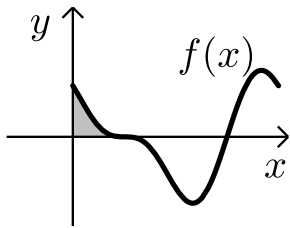
- (4) באיור שלפניך נתונה הפונקציה:  $y = \sin x + x$  בתחום:  $0 \leq x \leq 2\pi$ .



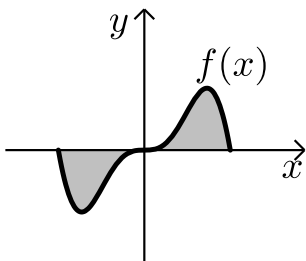
- א. האם יש לפונקציה נקודות קיצון פנימיות בתחום הנתון?  
ב. מורידים אנך מגרף הפונקציה לציר ה- $x$  בנקודה שבה:  $x = 2\pi$ .  
מעבירים ישר המקביל לציר ה- $x$  מהנקודה שמאפסת את הנגזרת.  
הראה כי השטחים  $S_1$  ו- $S_2$  המסומנים בסרטוט שווים.



- (5) באיור שלפניך מתוארים הגרפים של הפונקציה  
 הבאות:  $f(x) = \cos^2 x$  ו- $g(x) = \sin^2 x + \cos x - 1$   
 בתחום:  $0 \leq x \leq \pi$ .  
 א. מצא את נקודות החיתוך של הגרפים בתחום הנתון.  
 ב. חשב את השטח הכלוא בין שני הגרפים.  
 השתמש בזהות:  $\cos 2\alpha = \cos^2 \alpha - \sin^2 \alpha$ .



- (6) הנגזרת של הפונקציה  $f(x)$  היא:  $f'(x) = -\cos 2x - \sin x$ .  
 א. מצא את שיעורי ה- $x$  של הנקודות  
 המקיימות:  $f'(x) = 0$  בתחום:  $0 < x < 2\pi$ .  
 ידוע כי הנקודה המקיימת  $f'(x) = 0$  אשר אינה  
 קיצון נמצאת על ציר ה- $x$ .  
 ב. מצא את הפונקציה  $f(x)$ .  
 ג. באיור שלפניך מתואר גרף הפונקציה בתחום הנתון.  
 חשב את השטח הכלוא בין גרף הפונקציה והצירים.



- (7) ענה על הסעיפים הבאים:  
 א. נתונה הפונקציה:  $y = -x^2 \cos x + 2x \sin x + 2 \cos x$   
 הוכח כי הנגזרת של הפונקציה היא:  $y' = x^2 \sin x$   
 באיור שלפניך נתונה הפונקציה:  $f(x) = x^2 \sin x$   
 בתחום:  $-\pi \leq x \leq \pi$ .  
 ב. הראה כי גרף הפונקציה עובר בראשית הצירים.  
 ג. חשב את השטח הכלוא בין גרף הפונקציה  
 וציר ה- $x$  בתחום הנתון.

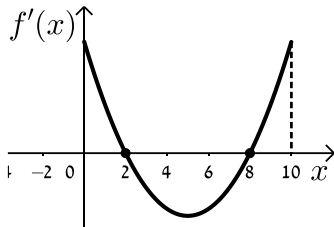
- (8) נתונה הפונקציה:  $f(x) = a \cos x + b \sin x$ , פרמטרים.  
 הפונקציה חותכת את ציר ה- $x$  בנקודה שבה  $x = \frac{\pi}{4}$  והיא חיובית בתחום  $\left[0, \frac{\pi}{4}\right]$ .  
 גודל השטח הכלוא מתחת לפונקציה בתחום  $\left[0, \frac{\pi}{4}\right]$  הוא  $2\sqrt{2} - 2$ .  
 מצא את ערכי הפרמטרים  $a$  ו- $b$ .

## תשובות סופיות:

- (1) 0.41 יח"ש.
- (2) א.  $y = x + 2$ . ב.  $\pi$  יח"ש.
- (3) א.  $y = 1$ . ב.  $\frac{S_1}{S_2} = \frac{3\pi + 2}{3\pi - 2} = 1.538$ .
- (4) א. אין נקודת קיצון, הנקודה  $(\pi, \pi)$  היא נקודת פיתול.  
 ב.  $S = 0.5\pi^2 - 2 = 2.934$ .
- (5) א.  $(0, 1)$ ,  $(\frac{2\pi}{3}, \frac{1}{4})$ . ב.  $S = 1.5 \frac{\sqrt{3}}{2} = 1.299$ .
- (6) א.  $x = \frac{\pi}{2}, \frac{7\pi}{6}, \frac{11\pi}{6}$ . ב.  $f(x) = -\frac{1}{2} \sin 2x + \cos x$ . ג.  $\frac{1}{2}$  יח"ש.
- (7) א. הוכחה. ב. הוכחה. ג.  $S = 2(\pi^2 - 4) \approx 11.74$ .
- (8)  $b = -2, a = 2$ .

## חישובי שטחים בין גרף הנגזרת והצירים:

### שאלות:



1 הפונקציה  $f(x)$  מוגדרת בתחום  $0 \leq x \leq 10$ .

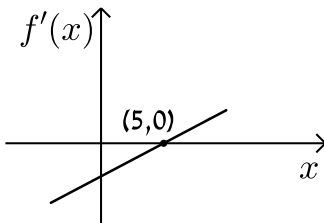
בציור מתואר גרף הנגזרת  $f'(x)$ .

א. סרטט סקיצה של גרף הפונקציה  $f(x)$

אם:  $f(2) = 6, f(0) = -4, f(5) = 0$  וכך:  $f(10) > 0$ .

ב. חשב את השטח המוגבל ע"י גרף הנגזרת והצירים ברביע הראשון

עד לנקודה שבה  $x = 2$ .



2 לפניך הגרף של הפונקציה  $f'(x)$ .

הגרף המתואר חותך את ציר ה- $x$  בנקודה

אחת בלבד והיא  $(5, 0)$ .

א. מצא את התחומים שבהם  $f'(x)$  היא חיובית

ואת התחומים שבהם היא שלילית.

ב. קבע מהם תחומי העלייה והירידה של הפונקציה  $f(x)$ .

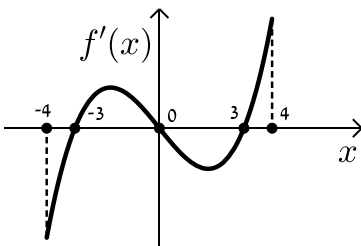
ג. כתוב את נקודת הקיצון של הפונקציה  $f(x)$  אם ידוע כי

שיעור ה- $y$  שלה הוא  $-2$ .

ד. סרטט סקיצה של גרף הפונקציה  $f(x)$  אם ידוע כי גרף הפונקציה

חותך את ציר ה- $y$  כאשר  $y = 8$ .

ה. חשב את השטח הכלוא בין גרף הנגזרת  $f'(x)$  והצירים.



3 בציור מתואר גרף הנגזרת  $f'(x)$  של הפונקציה  $f(x)$ .

א. רשום את תחומי העלייה והירידה של  $f(x)$ .

ב. מצא את שיעורי ה- $x$  של נקודות הקיצון

של  $f(x)$  וקבע את סוגן.

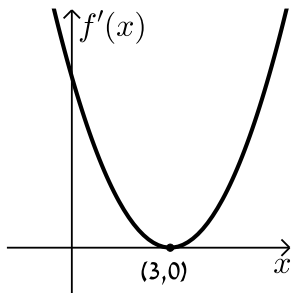
ג. נתון כי הפונקציה  $f(x)$  עוברת בראשית הצירים וגם מקיימת:  $f(-3) = f(3) = m$ .

סרטט סקיצה של גרף הפונקציה  $f(x)$  בתחום הנ"ל (הבע באמצעות  $m$ ).

ד. השטח הכלוא בין גרף הנגזרת  $f'(x)$  וציר ה- $x$  ברביעים

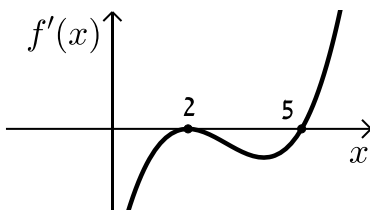
השני והרביעי הוא 16 יח"ש. מצא את  $m$ .

4 הנגזרת  $f'(x)$  של הפונקציה  $f(x)$  מתוארת באיור הבא.



- א. האם ל- $f(x)$  יש נקודות קיצון? נמק.
- ב. סרטט סקיצה של גרף הפונקציה  $f(x)$  אם ידוע כי  $f(3) = 4$  וכי היא חותכת את ציר ה- $y$  בנקודה שבה  $y = -5$ .
- ג. חשב את השטח הכלוא בין גרף הנגזרת  $f'(x)$  והצירים ברביע הראשון.

5 באיור שלפניך מתואר גרף הנגזרת  $f'(x)$  של הפונקציה  $f(x)$ .

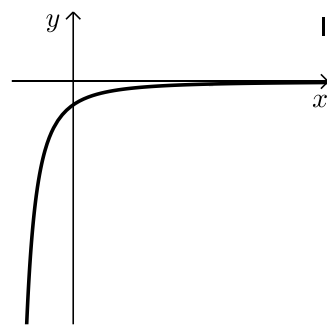
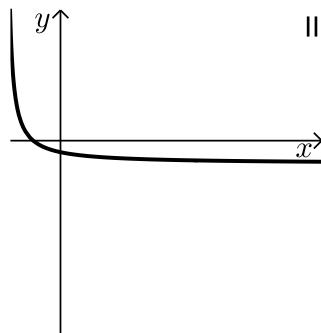


ידוע כי הנקודות  $A(5, -4.75)$ ,  $B(2, 2)$

ו- $C(0, 14)$  נמצאות על  $f(x)$ .

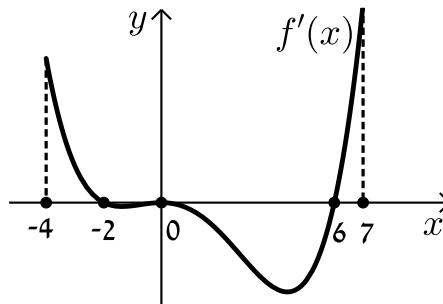
- א. מצא את נקודת הקיצון של הפונקציה  $f(x)$ .
- ב. כתוב את תחומי העלייה והירידה של  $f(x)$ .
- ג. סרטט סקיצה של גרף הפונקציה  $f(x)$ .
- ד. חשב את השטח מוגבל בין גרף הנגזרת  $f'(x)$  והצירים בתחום  $0 \leq x \leq 5$ .

6 באיורים שלפניך מתוארים הגרפים של הפונקציות  $f(x)$  ו- $f'(x)$ :



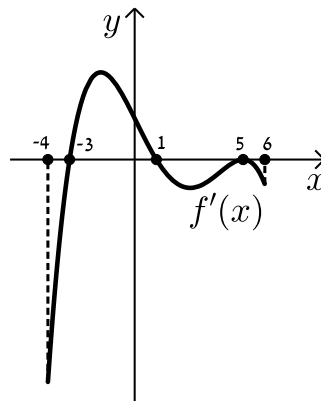
- א. זהה איזה גרף שייך לאיזו פונקציה ונמק.
- ב. נתון כי  $f(10) = -3$  וכי  $f(x)$  חותכת את ציר ה- $y$  בנקודה שבה  $y = -2$ . מהו השטח המוגבל בין גרף הנגזרת  $f'(x)$ , הצירים והישר  $x = 10$ ?

7 נתון גרף הנגזרת  $f'(x)$  הבא:



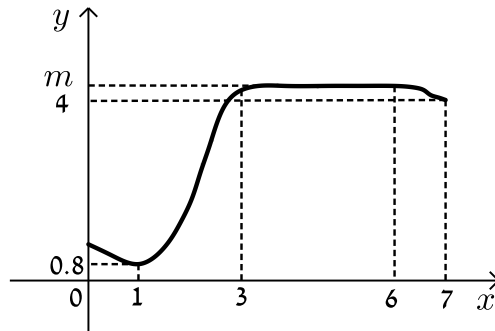
- א. סרטט את גרף הפונקציה  $f(x)$  בתחום  $-4 \leq x \leq 7$  לפי הנתונים:  $f(0) = -2$ ,  $f(-2) = 7.6$  ו-  $f(6) = -606.8$ .
- ב. חשב את השטח המוגבל בין גרף הנגזרת וציר ה- $x$  ברביע השלישי.
- ג. חשב את השטח המוגבל בין גרף הנגזרת וציר ה- $x$  ברביע הרביעי.

8 נתון גרף הנגזרת  $f'(x)$  הבא:



- א. סרטט את גרף הפונקציה  $f(x)$  בתחום  $-4 \leq x \leq 6$  עבור הנתונים:  $f(5) = -83\frac{1}{3}$ ,  $f(1) = 36\frac{2}{15}$ ,  $f(-3) = -356\frac{2}{5}$ .
- ב. חשב את כלל השטח הכלוא בין גרף הנגזרת וציר ה- $x$  בתחום:  $-3 \leq x \leq 5$ .

9) בציור שלפניך מתואר גרף הפונקציה  $f(x)$  בתחום  $0 < x < 7$ :



הסתמך על הגרף של  $f(x)$  ועל הערכים הרשומים על הצירים וענה על השאלות הבאות:

א. מצא עבור אילו ערכים של  $x$  השונים מ-6 מתקיים:

i.  $f'(x) > 0$

ii.  $f'(x) = 0$

iii.  $f'(x) < 0$

ב. נתון כי:  $\int_3^6 m dx = 15$ , כאשר  $m$  הוא פרמטר המסומן על ציר ה- $y$ .

מצא את  $f(5)$ .

ג. סרטט סקיצה של גרף פונקציה הנגזרת  $f'(x)$  בתחום  $0 < x < 3$ .

ד. מצא את השטח המוגבל בין הגרף של פונקציה הנגזרת  $f'(x)$

וציר ה- $x$  בתחום  $1 < x < 3$ .

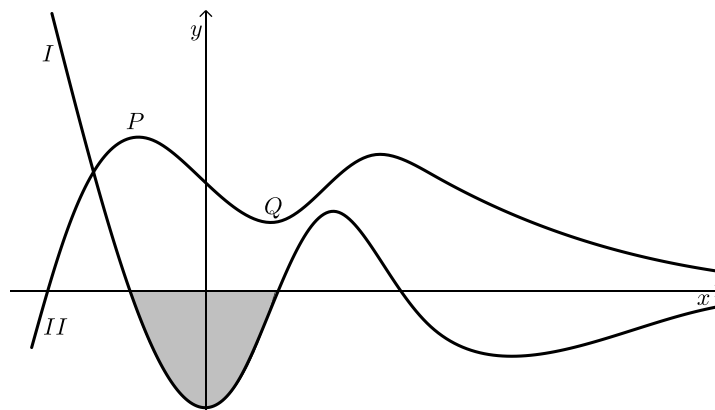
10) בסרטוט נתונים הגרפים של פונקציה ושל נגזרתה.

א. קבע איזה מהגרפים, I או II, שייך לפונקציה ואיזה שייך לנגזרת. נמק.

ב. כמה נקודות פיתול יש לפונקציה? נמק וסמן אותן על הסרטוט.

ג. נתון:  $P(-2, 4)$ ,  $Q(2, 1)$ . מצא את גודלו של השטח הכלוא בין גרף I

לציר ה- $x$  (השטח המסומן בסרטוט).

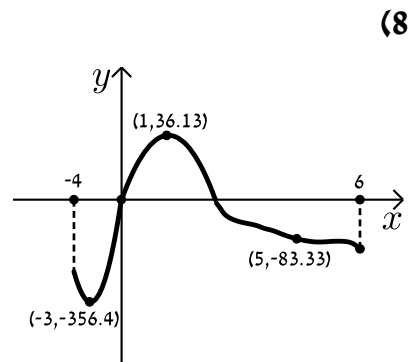
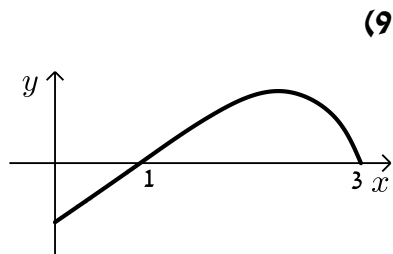
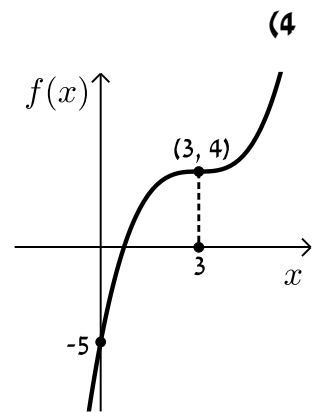
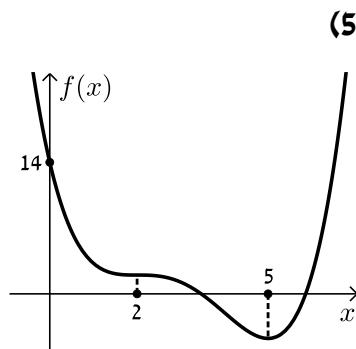
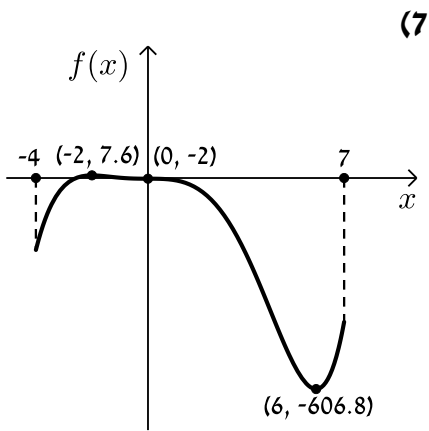
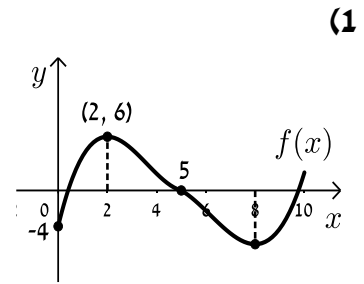
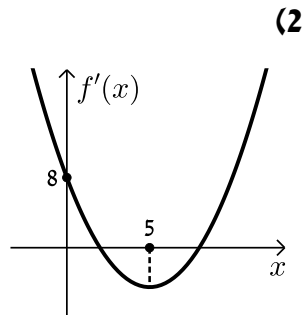
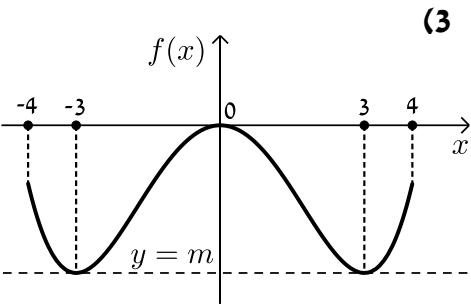


## תשובות סופיות:

הערה: סרטוטי הסקיצות מופיעות במרוכז בעמוד הבא.

- (1) ב. 10 יח"ש.
- (2) א. חיובית:  $x > 5$ , שלילית:  $x < 5$ . ב. עולה:  $x > 5$ , יורדת:  $x < 5$ .  
 ג.  $\min(5, -2)$ . ד. הוכחה. ה. 10 יח"ש.
- (3) א. עולה:  $3 < x \leq 4$ ,  $-3 < x < 0$ , יורדת:  $0 < x < 3$ ,  $-4 \leq x < -3$ .  
 ב.  $x_{\min} = -3$ ,  $x_{\max} = 0$ ,  $x_{\min} = 3$ . ג. הוכחה. ד.  $m = -8$ .
- (4) א. לא. הנקודה  $(3, 0)$  היא פיתול מכיוון שהפונקציה עולה לפניה ואחריה.  
 ב. הוכחה. ג. 9 יח"ש.
- (5) א.  $\min(5, -4.75)$ . ב. עולה:  $x > 5$ , יורדת:  $x < 5$ .  
 ג. הוכחה. ד. 18.75 יח"ש.
- (6) א.  $f(x): \text{II}$ ,  $f'(x): \text{I}$ . ב. 1 יח"ש.
- (7) א. הוכחה. ב. 9.6 יח"ש. ג. 604.8 יח"ש.
- (8) א. הוכחה. ב. 512 יח"ש.
- (9) א. i.  $f'(x) > 0: 1 < x < 3$ . א. ii.  $f'(x) = 0: x = 1, 3 \leq x < 6$ .  
 א. iii.  $f'(x) < 0: 6 < x < 7, 0 < x < 1$ . ב.  $f(5) = 5, m = 5$ . ד. 4.2 יח"ש.
- (10) א. גרף I -  $f'(x)$  וגרף II -  $f(x)$ . ב. 3 נקודות פיתול.  
 ג. 3 יח"ש.

סרטוטי גרפים לפי מספרי שאלות:



# קורס מתמטיקה להנדסאי טכנולוגיות מים

פרק 32 - חשבון אינטגרלי - פונקציה מעריכית, לוגריתמית וחזקה

תוכן העניינים

- 519 ..... 1. פונקציה מעריכית.
- 525 ..... 2. פונקציה לוגריתמית.
- 531 ..... 3. פונקצית חזקה עם מעריך רציונאלי.

## פונקציה מעריכית:

סיכום כללי:

אינטגרלים מיידיים של פונקציות מעריכיות:

אינטגרלים יסודיים	אינטגרלים של פונקציות מורכבות
$\int a^x dx = \frac{a^x}{\ln a} + c$	$\int a^{mx+n} dx = \frac{a^{mx+n}}{m \cdot \ln a} + c$
$\int e^x dx = e^x + c$	$\int e^{mx+n} dx = \frac{e^{mx+n}}{m} + c$

שאלות:

אינטגרל כללי:

(1) חשב את האינטגרלים הבאים:

א.  $\int (5e^x - e^{3x} + e^{-x} + 1) dx$

ג.  $\int (6\sqrt{e^{4x-1}}) dx$

ב.  $\int (3^x + 5^{2x}) dx$

ד.  $\int (e^x + e^{-x})^2 dx$

(2) חשב את האינטגרלים הבאים:

א.  $\int \frac{e^{2x} - 1}{e^x - 1} dx$

ב.  $\int \frac{3e^{3x} - 5e^{2x} + 4e^x - 2}{e^x - 1} dx$

(3) חשב את האינטגרלים הבאים:

א.  $\int (e^{4x} + e^{-x}) dx$

ג.  $\int \frac{2^x + 4^{2x} + 10^{3x}}{5^x} dx$

ב.  $\int (e^{x+1})^2 dx$

ד.  $\int \left( 4\sqrt{e^x} + \frac{1}{\sqrt[3]{e^{4x}}} \right) dx$

4) חשב את האינטגרלים הבאים:

א.  $\int \left( \frac{e^x}{\sqrt{e^x+3}} \right) dx$     ב.  $\int \left( \frac{3-e^x}{(e^x-3x)^2} \right) dx$     ג.  $\int (xe^{x^2}) dx$

**אינטגרל מסוים:**

5) נתונה נגזרת של פונקציה:  $f'(x) = 2e^x - \frac{1}{e^x}$ .

מצא את הפונקציה אם ידוע שהיא עוברת בנקודה  $\left( \ln 2, 3\frac{1}{4} \right)$ .

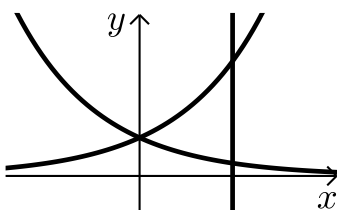
6) נתונה נגזרת של פונקציה:  $f'(x) = e^{2x} + e^x - 2$ .

מצא את הפונקציה אם ידוע שערך הפונקציה בנקודת המינימום שלה הוא  $\frac{1}{2}$ .

7) נתונה נגזרת של פונקציה:  $f'(x) = 6x^2e^{x^3} - \frac{1}{x^2}$ .

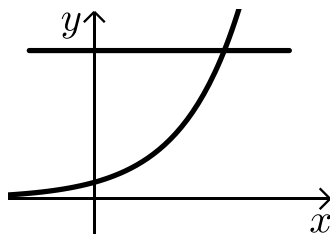
מצא את הפונקציה אם ידוע שהיא עוברת בנקודה  $\left( -1, \frac{2}{e} \right)$ .

**חישובי שטחים:**



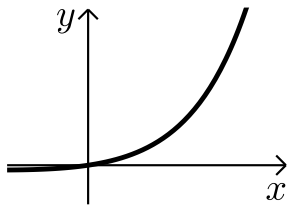
8) נתונות הפונקציות:  $f(x) = e^x$ ,  $g(x) = e^{-x}$ .

מצא את גודל השטח הכלוא בין הפונקציות לישר  $x = \ln 3$ .

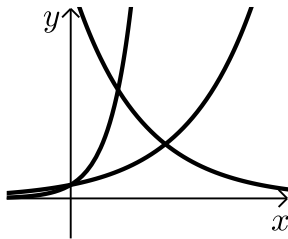


9) נתונה הפונקציה:  $f(x) = 3^x$ .

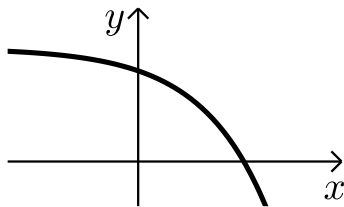
מצא את גודל השטח הכלוא בין הפונקציה, הישר  $y = 9$  וציר ה- $y$ .



- 10** נתונה הפונקציה:  $f(x) = e^{2x} - e^x$ .  
לפונקציה העבירו משיק בראשית הצירים.  
מצא את גודל השטח הכלוא בין הפונקציה,  
המשיק והישר  $x = 2$ .



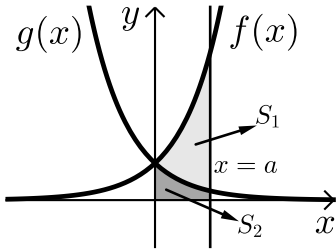
- 11** נתונות הפונקציות:  
 $f(x) = e^x$ ,  $g(x) = e^{3x}$ ,  $h(x) = 16e^{-x}$ .  
חשב את גודל השטח הכלוא שבין שלוש הפונקציות.



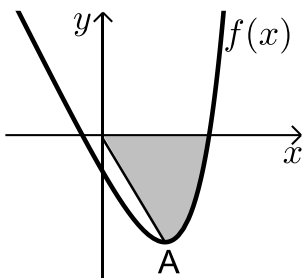
- 12** נתונה הפונקציה:  $f(x) = 5 - e^x$ .  
העבירו לפונקציה משיק ששיפועו  $-e$ .  
חשב את גודל השטח הכלוא בין  
הפונקציה, המשיק וציר ה- $x$ .  
ניתן להשאיר  $e$  ו- $\ln$  בתשובה.

- 13** נתונה הפונקציה:  $f(x) = e^{bx}$ ,  $(0 < b)$ .  
גודל השטח הכלוא בין הפונקציה, המשיק לפונקציה העובר  
בראשית הצירים וציר ה- $y$  הוא  $\frac{e-2}{4}$ .  
מצא את ערכו של הפרמטר  $b$ .

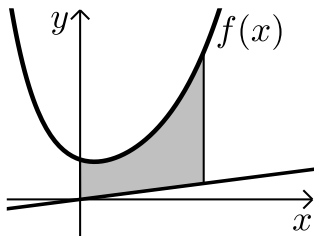
- 14** נתונות הפונקציות:  $f(x) = e^{\frac{1}{2}x}$ ,  $g(x) = e^{-x}$ .  
מנקודה הנמצאת על גרף הפונקציה  $g(x)$  ברביע הראשון הורידו אנך לשני  
הצירים. המשך האנך לציר ה- $y$  חותך את הפונקציה  $f(x)$  ומנקודת החיתוך  
יורד אנך נוסף לציר ה- $x$  כך שנוצר מלבן.  
הוכח כי שטחו המקסימלי של מלבן כזה הוא  $\frac{3}{e}$ .



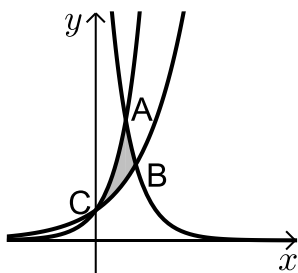
- 15** באיור שלפניך מתוארים הגרפים של הפונקציות:  $f(x) = e^{2x}$  ו-  $g(x) = e^{-2x}$ . מעבירים אנך לציר ה- $x$  את הישר  $x = a$ ,  $a > 0$ , כמתואר באיור. אנך זה יוצר את השטחים  $S_1$  ו-  $S_2$ . ידוע כי השטח  $S_1$  גדול פי 3 מהשטח  $S_2$ . מצא את  $a$ .



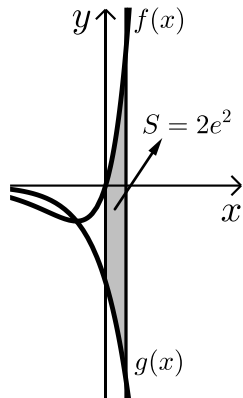
- 16** נתונה הפונקציה:  $f(x) = e^{2x-1} - 2ex - 2$ . הנקודה A היא נקודת המינימום של הפונקציה. א. מצא את שיעורי הנקודה A. מחברים את הנקודה A עם ראשית הצירים. ב. כתוב את משוואת הישר המחבר את הנקודה A עם הראשית. ג. חשב את השטח הכלוא בין גרף הפונקציה, הישר וציר ה- $x$ , אם ידוע כי גרף הפונקציה חותך את ציר ה- $x$  בנקודה שבה  $x = 1.7$ .



- 17** נתונה הפונקציה:  $f(x) = \frac{e^x + e^{ax}}{4}$ . ידוע כי הפונקציה עוברת דרך הנקודה:  $(1, \frac{e^3 + 1}{4e^2})$ . א. מצא את  $a$  וכתוב את הפונקציה. ב. באיור שלפניך מתואר גרף הפונקציה  $f(x)$  והישר:  $y = 0.1x$ . חשב את השטח המוגבל בין גרף הפונקציה, הישר, ציר  $y$  והאנך:  $x = 2$ .



- 18** באיור שלפניך מתוארים הגרפים של שלוש פונקציות: I.  $f(x) = 2^x$ . II.  $g(x) = 4^x$ . III.  $h(x) = 2^{4-2x}$ . א. קבע איזה גרף מתאר כל פונקציה. ב. מצא את שיעורי הנקודות A, B ו- C. (נקודות החיתוך שבין הגרפים). ג. חשב את השטח המסומן באיור.



**19** ענה על הסעיפים הבאים:

א. גזור את הפונקציה הבאה:  $y = e^x(x-1)$ .

ב. באיור שלפניך מתוארים הגרפים של

הפונקציות:  $f(x) = xe^x$ ,  $g(x) = -e^x$ .

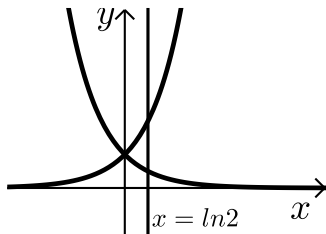
מעבירים ישר  $x = a$  ( $a > 0$ ), החותך את הגרפים

של שתי הפונקציות ויוצר את השטח המתואר

הכלוא בין הגרפים של שניהם, ציר ה- $y$  והישר.

ידוע כי שטח זה שווה ל- $2e^2$ . מצא את  $a$ .

**חישובי נפחים:**



**20** נתונות הפונקציות:  $f(x) = e^x$ ,  $g(x) = e^{-x}$ .

השטח הכלוא בין הפונקציות והישר:  $x = \ln 2$

מסתובב סביב ציר ה- $x$ .

חשב את נפח גוף הסיבוב שנוצר.

## תשובות סופיות:

- (1) א.  $5e^x - \frac{e^{3x}}{3} - e^{-x} + x + c$     ב.  $\frac{3^x}{\ln 3} + \frac{5^{2x}}{2\ln 5} + c$
- ג.  $3e^{2x-\frac{1}{2}} + c$     ד.  $\frac{1}{2}e^{2x} + 2x - \frac{1}{2}e^{-2x} + c$
- (2) א.  $e^x + x + c$     ב.  $\frac{3e^{2x}}{2} - 2e^x + 2x + c$
- (3) א.  $\frac{1}{4}e^{4x} - e^{-x} + c$     ב.  $\frac{1}{2}e^{2x+2} + c$
- ג.  $\frac{0.4^x}{\ln 0.4} + \frac{3.2^x}{\ln 3.2} + \frac{200^x}{\ln 200} + c$     ד.  $8\sqrt{e^x} - \frac{3}{4}e^{-\frac{4x}{3}} + c$
- (4) א.  $2\sqrt{e^x+3} + c$     ב.  $\frac{1}{e^x-3x} + c$     ג.  $\frac{1}{2}e^{x^2} + c$
- (5)  $f(x) = 2e^x + e^{-x} - 1.25$
- (6)  $f(x) = \frac{1}{2}e^{2x} + e^x - 2x - 1$
- (7)  $f(x) = 2e^{x^3} + \frac{1}{x} + 1$
- (8)  $S = 1\frac{1}{3}$  יח"ש
- (9)  $S = 10.72$  יח"ש
- (10)  $S = 18.41$  יח"ש
- (11)  $S = 3\frac{1}{3}$  יח"ש
- (12)  $S = 0.192$  יח"ש
- (13)  $b = 2$
- (15)  $a = \ln 2$
- (16) א.  $A(1, -e-2)$     ב.  $y = -(e+2)x$     ג.  $S = 4.744$  יח"ש
- (17) א.  $a = -2$     ב.  $f(x) = \frac{e^x + e^{-2x}}{4}$     ג. 1.52
- (18) א.  $A(1, 4)$ ,  $B\left(1\frac{1}{3}, 2.52\right)$ ,  $C(0, 1)$     ב. 1.03 יח"ש
- (19) א.  $y' = xe^x$     ב.  $a = 2$
- (20)  $1\frac{1}{8}$  יח"ש

## פונקציה לוגריתמית:

### סיכום כללי:

אינטגרלים מיידיים של פונקציות לוגריתמיות:

אינטגרל יסודי	אינטגרל של פונקציה מורכבת
$\int \frac{1}{x} dx = \ln x  + c$	$\int \frac{1}{ax+b} dx = \frac{1}{a} \ln ax+b  + c$

### שאלות:

#### אינטגרל כללי:

(1) חשב את האינטגרלים הבאים:

$$\int \left( \frac{3}{x} + \frac{2}{x+1} - \frac{4}{3x-1} \right) dx \quad \text{א.} \quad \int \frac{x^2+3x-4}{x} dx \quad \text{ב.} \quad \int \frac{x+3}{x^2-9} dx \quad \text{ג.}$$

(2) חשב את האינטגרלים הבאים:

$$\int \frac{x^2+3x+5}{x+1} dx \quad \text{א.} \quad \int \frac{x^3-x^2+5x-6}{x-2} dx \quad \text{ב.} \quad \int \frac{x^4+3}{x+1} dx \quad \text{ג.}$$

(3) חשב את האינטגרלים הבאים:

$$\int \frac{2x}{x^2-3} dx \quad \text{א.} \quad \int \frac{x-1}{x^2-2x} dx \quad \text{ב.} \quad \int \frac{e^x}{e^x+5} dx \quad \text{ג.} \\ \int \frac{e^x - e^{-x}}{e^x + e^{-x}} dx \quad \text{ד.} \quad \int \frac{\cos x}{\sin x} dx \quad \text{ה.}$$

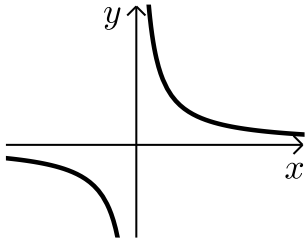
#### אינטגרל מסוים:

(4) נתונה נגזרת של פונקציה:  $f'(x) = 2x - \frac{1}{x-4}$ .

מצא את הפונקציה אם ידוע שהיא עוברת בנקודה (5, 28).

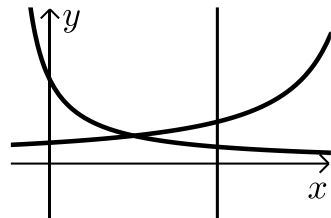
- (5) נתונה נגזרת שנייה של פונקציה:  $f''(x) = 6x - \frac{1}{x^2}$ . מצא את הפונקציה אם ידוע שהיא עוברת בנקודה  $(1, -2)$  וששיפועה בנקודה זו הוא 3.

**חישובי שטחים:**



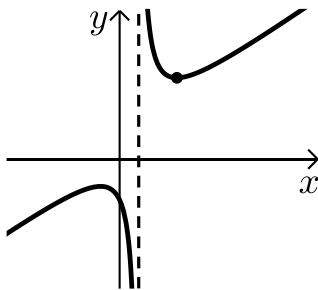
- (6) נתונה הפונקציה:  $f(x) = \frac{1}{x}$ .

חשב את גודל השטח הכלוא בין הפונקציה, הישרים  $x = -1$  ו- $x = -4$  וציר ה- $x$ . ניתן להשאיר  $\ln$  בתשובה.



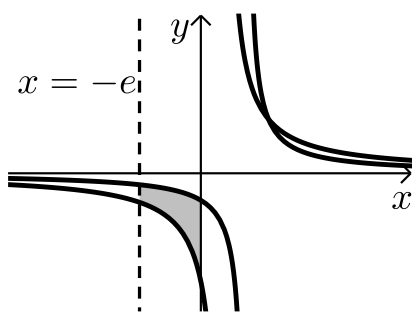
- (7) נתונות הפונקציות:  $f(x) = \frac{2}{x+1}$ ,  $f(x) = \frac{4}{8-x}$ .

חשב את גודל השטח הכלוא בין הפונקציות, הישר  $x = 4$  והצירים.



- (8) נתונה הפונקציה:  $f(x) = \frac{x^2 + 3}{x - 1}$ .

חשב את גודל השטח הכלוא בין גרף הפונקציה, המשיק לפונקציה בנקודה שבה  $x = 2$  ואנך לציר ה- $x$  העובר בנקודת המינימום של הפונקציה. אפשר להשאיר ביטוי עם  $\ln$  בתשובה.

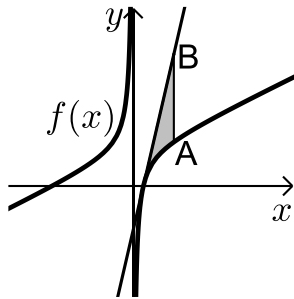


- (9) באיור שלפניך נתונות הפונקציות:  $f(x) = \frac{a}{x-1}$ .

ו-  $g(x) = \frac{a-1}{x-2}$  בתחום:  $x < 0$ .

ידוע כי הגרפים של הפונקציות נחתכים בנקודה שבה  $x = 3$ .

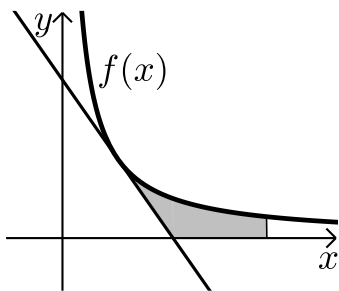
- א. מצא את  $a$  וכתוב את שתי הפונקציות.  
ב. חשב את השטח המוגבל ע"י הגרפים של שתי הפונקציות, ציר ה- $y$  והישר  $x = -e$ .



**10** נתונה הפונקציה:  $f(x) = 7 + ax + \frac{b}{x}$ .

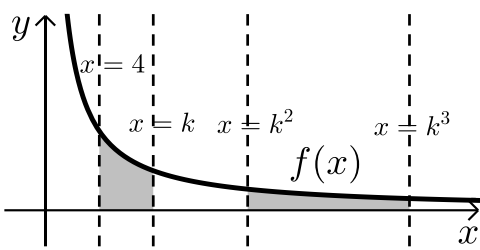
ידוע כי משוואת המשיק לגרף הפונקציה  
בנקודת החיתוך שלה עם ציר ה- $x$  היא:  $y = 18x - 9$ .  
א. מצא את  $a$  ו- $b$  וכתוב את הפונקציה.  
מעבירים ישר המקביל לציר ה- $y$  שחותך את גרף  
הפונקציה בנקודה A ואת משוואת המשיק בנקודה B.  
אורך הקטע AB הוא 18.

- ב. מצא את משוואת הישר הנ"ל אם ידוע כי הנקודה A  
נמצאת מימין לנקודת החיתוך של גרף הפונקציה עם ציר ה- $x$ .  
ג. חשב את השטח המוגבל בין גרף הפונקציה, המשיק והישר.



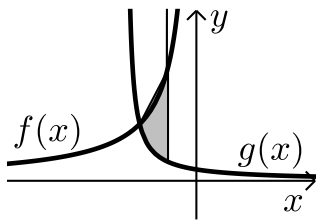
**11** הנגזרת של הפונקציה  $f(x)$  היא:  $f'(x) = -\frac{4}{x^2}$ .

משוואת המשיק לגרף הפונקציה בנקודה  
שבה:  $x = 2$  היא:  $y = 4 - x$ .  
א. מצא את הפונקציה  $f(x)$ .  
ב. באיור שלפניך מתוארים גרף הפונקציה  $f(x)$   
והמשיק בתחום:  $x > 0$ .  
חשב את השטח המוגבל בין גרף הפונקציה, המשיק,  
ציר ה- $x$  והישר  $x = e^2$ .



**12** באיור שלפניך נתונה הפונקציה:  $f(x) = \frac{2}{x}$ .

בתחום:  $x > 0$ . מעבירים את הישרים:  
 $x = 4$ ,  $x = k$ ,  $x = k^2$ ,  $x = k^3$   
כמתואר  $x > 4$ .  
א. הבע באמצעות  $k$  את השטחים  $S_1$  ו- $S_2$ .  
ב. הראה כי ההפרש:  $S_2 - S_1$  אינו תלוי ב- $k$  וחשב את ערכו.  
ג. נתון כי השטח  $S_2$  גדול פי 3 מהשטח  $S_1$ . מצא את  $k$ .



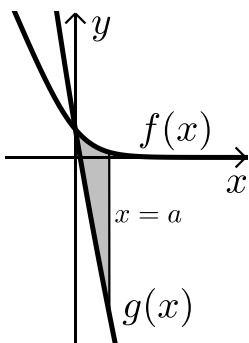
**13** נתונות הפונקציות:  $f(x) = -\frac{4}{x}$  ו-  $g(x) = \frac{k}{2x+5}$ .

גרף הפונקציה  $g(x)$  חותך את ציר ה- $y$  בנקודה שבה  $y = 0.4$ .

א. מצא את הפונקציה  $g(x)$ .

ב. מצא את נקודת החיתוך של שני הגרפים.

ג. חשב את השטח המוגבל ע"י שני הגרפים והישר  $x = -1$ .



**14** באיור מתוארים הגרפים של הפונקציות:

$f(x) = \ln(e^{-x} + 1)$  ו-  $g(x) = \ln(e^{-2x} + e^{-3x})$

בתחום:  $(x \geq 0)$ .

א. הראה כי הגרפים נחתכים על ציר ה- $y$ .

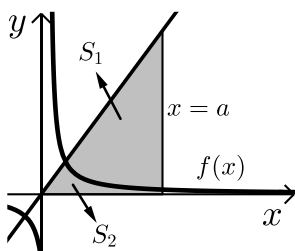
ב. מעבירים ישר  $x = a$ ,  $(a > 1)$ , המאונך

לציר ה- $x$  אשר חותך את הגרפים של שתי

הפונקציות ויוצר את השטח  $S$  (ראה איור).

מצא את ערכו של  $a$  עבורו מתקיים:  $S = 4$ .

**15** באיור שלפניך מתוארים הגרפים של הפונקציה:  $f(x) = \frac{2}{3x-1}$  והישר:  $y = x$ .



א. מצא את נקודת החיתוך של הפונקציות הנמצאת ברביע הראשון.

מעבירים אנך לציר ה- $x$   $x = a$  הנמצא מימין

לנקודת החיתוך שמצאת בסעיף הקודם.

האנך חותך את הגרפים ויוצר את השטחים  $S_1$  ו- $S_2$

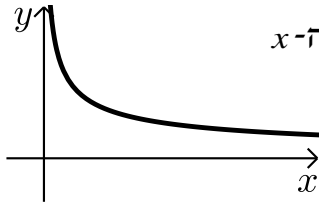
המתוארים האיור.

ב. מצא את הערך של  $a$  עבורו השטח  $S_2$  יהיה שווה ל-  $\frac{1}{2} + \frac{2}{3} \ln 7$ .

ג. עבור ערך ה- $a$  שמצאת בסעיף הקודם חשב את יחס השטחים:  $\frac{S_1}{S_2}$ .

## חישובי נפחים:

$$(16) \text{ נתונה הפונקציה: } f(x) = \frac{1}{\sqrt{x}}$$



השטח הכלוא בין הפונקציה, הישרים  $x=1$  ו- $x=3$  וציר ה- $x$  מסתובב סביב ציר ה- $x$ . מצא את נפח גוף הסיבוב שנוצר באופן זה. אפשר להשאיר  $\ln$  בתשובה.

$$(17) \text{ נתונה הפונקציה: } f(x) = \frac{e^x}{\sqrt{e^{2x}+1}}$$

השטח הכלוא בין הפונקציה, הצירים והישר  $x = \ln \sqrt{3}$  מסתובב סביב ציר ה- $x$ . חשב את נפח גוף הסיבוב שנוצר.

$$(18) \text{ נתונה הפונקציה: } f(x) = \sqrt{x} + \frac{2}{\sqrt{x}}$$

השטח הכלוא בין הפונקציה, הישרים  $x=a$  ו- $x=a+3$  ( $a > 0$ ), וציר ה- $x$  מסתובב סביב ציר ה- $x$ . חשב את נפח גוף הסיבוב המינימלי שנוצר באופן זה.

## תשובות סופיות:

$$\ln|x-3|+c \quad \lambda \quad \frac{x^2}{2}+3x-4\ln|x|+c \quad \text{ב.} \quad 3\ln|x|+2\ln|x+1|-\frac{4\ln|3x-1|}{3}+c \quad \text{א.} \quad (1)$$

$$\frac{x^3}{3}+\frac{x^2}{2}+7x+8\ln|x-2|+c \quad \text{ב.} \quad \frac{x^2}{2}+2x+3\ln|x+1|+c \quad \text{א.} \quad (2)$$

$$\frac{x^4}{4}-\frac{x^3}{3}+\frac{x^2}{2}-x+4\ln|x+1|+c \quad \lambda$$

$$\ln|e^x+5|+c \quad \lambda \quad \frac{1}{2}\ln|x^2-2x|+c \quad \text{ב.} \quad \ln|x^2-3|+c \quad \text{א.} \quad (3)$$

$$\ln|\sin x|+c \quad \text{ה.} \quad \ln|e^x+e^{-x}|+c \quad \text{ז.}$$

$$f(x)=x^2-\ln|x-4|+3 \quad (4)$$

$$f(x)=x^3+\ln|x|-x-2 \quad (5)$$

$$S = \text{יח"ש} \ln 4 \quad (6)$$

$$S = \text{יח"ש} 2.17 \quad (7)$$

$$S = \text{יח"ש} 4\ln 2 - 2 \quad (8)$$

$$S = \text{יח"ש} 1.76 \quad \text{ב.} \quad f(x) = \frac{2}{x-1}, \quad g(x) = \frac{1}{x-2}, \quad a=2 \quad \text{א.} \quad (9)$$

$$x=2 \quad \text{ב.} \quad f(x) = 7+2x-\frac{4}{x}, \quad a=2, \quad b=-4 \quad \text{א.} \quad (10)$$

$$S = 6 + \ln 256 \approx \text{יח"ש} 11.54 \quad \lambda$$

$$S = \text{יח"ש} 6-4\ln 2 \quad \text{ב.} \quad f(x) = \frac{4}{x} \quad \text{א.} \quad (11)$$

$$k=8 \quad \lambda \quad S_2 - S_1 = \ln 16 \quad \text{ב.} \quad S_1 = 2\ln k - \ln 16, \quad S_2 = 2\ln k \quad \text{א.} \quad (12)$$

$$S = \text{יח"ש} \ln 5 \frac{1}{3} \approx 1.674 \quad \lambda \quad (-2, 2) \quad \text{ב.} \quad g(x) = \frac{2}{2x+5} \quad \text{א.} \quad (13)$$

$$a=2 \quad \text{ב.} \quad (14)$$

$$\frac{S_1}{S_2} = 5.955 \quad \lambda \quad a=5 \quad \text{ב.} \quad (1, 1) \quad \text{א.} \quad (15)$$

$$V = \text{יח"נ} \pi \ln 3 \quad (16)$$

$$V = \text{יח"נ} \frac{\pi}{2} \ln 2 \quad (17)$$

$$V = \text{יח"נ} \pi \left( 19 \frac{1}{2} + 4 \ln 4 \right) \quad (18)$$

## פונקצית חזקה עם מעריך רציונאלי:

### סיכום כללי:

אינטגרלים מיידיים של פונקצית חזקה עם מעריך רציונאלי:

אינטגרל יסודי	אינטגרל של פונקציה מורכבת
$\int \sqrt[n]{x^m} dx = \int x^{\frac{m}{n}} dx = \frac{x^{\frac{m}{n}+1}}{\frac{m}{n}+1} + c$	$\int \sqrt[n]{(ax+b)^m} dx = \int (ax+b)^{\frac{m}{n}} dx = \frac{(ax+b)^{\frac{m}{n}+1}}{a \cdot \left(\frac{m}{n}+1\right)} + c$

תנאי לקיום האינטגרציה:  $\frac{m}{n} \neq -1$ .

### שאלות:

אינטגרל של פונקצית חזקה:

(1) חשב את האינטגרלים הבאים:

א.  $\int \sqrt[3]{x} dx$       ב.  $\int (4x - 2\sqrt[4]{x}) dx$       ג.  $\int (x \cdot \sqrt[5]{x}) dx$   
 ד.  $\int \frac{3}{\sqrt[3]{x}} dx$       ה.  $\int \frac{x+4}{\sqrt[4]{x}} dx$       ו.  $\int \frac{x^3 - 3x + 5}{\sqrt{x}} dx$   
 ז.  $\int \sqrt[3]{2x-3} dx$       ח.  $\int \sqrt[4]{5-x} dx$       ט.  $\int \frac{3}{\sqrt[8]{7x+12}} dx$   
 י.  $\int \frac{7}{\sqrt[5]{14-2x}} dx$

(2) חשב את ערכי האינטגרלים הבאים:

א.  $\int_0^8 (x + \sqrt[5]{4x}) dx$       ב.  $\int_3^{16} (\sqrt[4]{5x+1}) dx$       ג.  $\int_{-10}^5 \frac{2}{\sqrt[4]{6-x}} dx$

**אינטגרל מסוים:**

(3) נתונה הנגזרת הבאה:  $f'(x) = 2x - \sqrt[3]{4x}$

ידוע כי הפונקציה עוברת בנקודה  $(2, 3)$ .  
מצא את הפונקציה.

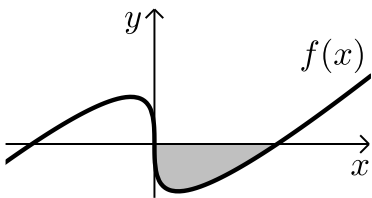
(4) נתונה הנגזרת הבאה:  $f'(x) = \sqrt[3]{5x+7}$

ידוע כי הפונקציה חותכת את ציר ה- $x$  בנקודה שבה  $x = 4$ .  
מצא את הפונקציה.

(5) נתונה הנגזרת הבאה:  $f'(x) = \frac{10}{\sqrt[3]{x+1}} + (x-1)^2$

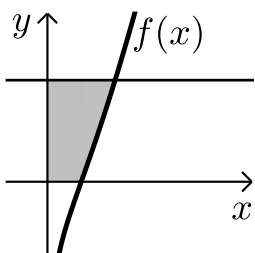
ידוע כי הפונקציה חותכת את ציר ה- $y$  בנקודה שבה  $y = -6$ .  
מצא את הפונקציה.

**חישובי שטחים:**



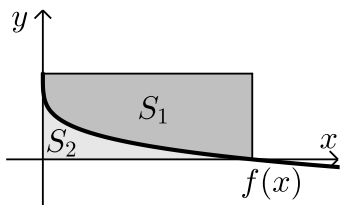
(6) באיור שלפניך מופיע גרף הפונקציה:  $f(x) = x - 4\sqrt[3]{x}$

- א. מצא את נקודות החיתוך של הפונקציה עם ציר ה- $x$ .  
ב. חשב את השטח הנוצר בין גרף הפונקציה והצירים.



(7) באיור שלפניך מצויר גרף הפונקציה:  $f(x) = \frac{x^2 - 4}{\sqrt{x}}$

- א. מהו תחום ההגדרה של הפונקציה?  
ב. מצא את נקודת החיתוך של הפונקציה עם ציר ה- $x$ .  
ג. מעבירים אנך לציר ה- $y$  מהנקודה  $(4, 6)$ .  
חשב את השטח הנוצר בין גרף הפונקציה, האנך והצירים.



8) באיור שלפניך מתואר גרף הפונקציה:  $f(x) = 2 - \sqrt[4]{x}$ .

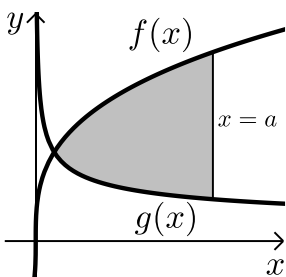
מעבירים אנכים לצירים מנקודות החיתוך של

גרף הפונקציה עם הצירים כך שנוצר מלבן.

מסמנים את השטח שבין גרף הפונקציה והצירים:

ב-  $S_1$  ואת השטח שבין גרף הפונקציה והאנכים ב-  $S_2$ .

מצא את היחס:  $\frac{S_1}{S_2}$ .



9) באיור שלפניך נתונים הגרפים של הפונקציות

הבאות:  $f(x) = 4\sqrt[3]{x}$ ,  $g(x) = \frac{1}{\sqrt[3]{x}}$ .

א. מצא את נקודת החיתוך של הגרפים בתחום:  $x > 0$ .

ב. מעבירים אנך לציר ה- $x$ ,  $x=a$ , ( $a$  פרמטר).

ידוע כי השטח שנוצר בין שני הגרפים מנקודת

החיתוך שלהם ועד לאנך הוא:  $42\frac{3}{16}$  סמ"ר.

מצא את  $a$ .

10) נתונה הפונקציה:  $f(x) = \sqrt[4]{5x+6} - ax$ , ( $a$  פרמטר).

ידוע כי גרף הפונקציה חותך את ציר ה- $x$  בנקודה שבה  $x=2$ .

א. מצא את הפרמטר  $a$  וכתוב את הפונקציה.

ב. מהו תחום ההגדרה של הפונקציה?

ג. מצא את נקודת קיצון הקצה של הפונקציה.

ד. מצא את משוואת המשיק לגרף הפונקציה העובר

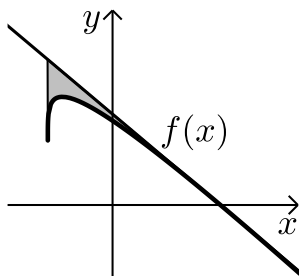
דרך נקודת החיתוך שלה עם ציר ה- $x$ .

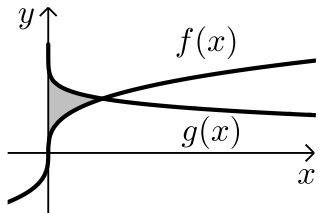
ה. באיור שלפניך מתואר גרף הפונקציה  $f(x)$

והמשיק שמצאת בסעיף הקודם. מורידים אנך

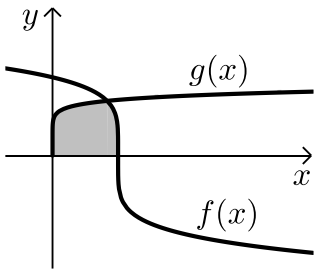
מהמשיק אל נקודת קיצון הקצה של הפונקציה שמצאת בסעיף ג'.

חשב את השטח הנוצר בין גרף הפונקציה  $f(x)$  והמשיק.

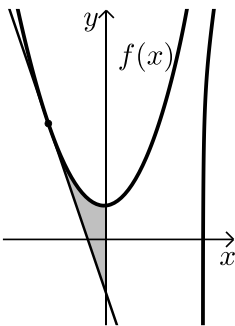




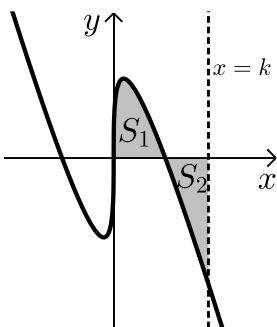
- 11** באיור שלפניך נתונים הגרפים של הפונקציות:  $f(x) = \sqrt[3]{x}$ ,  $g(x) = 2 - \sqrt{x}$ .  
 א. מצא את נקודת החיתוך של הגרפים.  
 ב. חשב את השטח הכלוא בין שני הגרפים וציר ה- $y$ .



- 12** הנגזרת של הפונקציה  $f(x)$  היא:  $f'(x) = -\frac{1}{\sqrt[5]{(6-5x)^4}}$   
 ידוע כי הפונקציה חותכת את ציר ה- $x$  בנקודה שבה:  $x = 1.2$ .  
 א. מצא את הפונקציה  $f(x)$ .  
 ב. חשב את השטח הכלוא בין גרף הפונקציה  $f(x)$ , גרף הפונקציה  $g(x) = \sqrt[10]{x}$  וציר ה- $x$ .



- 13** נתונה הפונקציה:  $f(x) = \frac{3}{\sqrt[3]{5-x}} + \frac{1}{2}x^2$   
 א. מצא את משוואת המשיק לגרף הפונקציה בנקודה שבה  $x = -3$ .  
 ב. חשב את השטח הכלוא בין גרף הפונקציה  $f(x)$ , המשיק וציר ה- $y$ .



- 14** נתונה הפונקציה:  $f(x) = \sqrt[3]{x} - 4x$ .  
 א. מהו תחום ההגדרה של הפונקציה?  
 ב. מצא את נקודות החיתוך של הפונקציה עם ציר ה- $x$ .  
 ג. באיור שלפניך מתואר גרף הפונקציה ברביע הראשון. השטח הכלוא בין גרף הפונקציה וציר ה- $x$  יסומן ב- $S_1$ .  
 מעבירים ישר  $x = k$  אשר יוצר את השטח  $S_2$  כמתואר. מצא את  $k$  אם ידוע כי:  $S_1 = S_2$ .

## תשובות סופיות:

- (1) א.  $0.75\sqrt[3]{x^4} + c$     ב.  $2x^2 - 1.6\sqrt[4]{x^5} + c$     ג.  $\frac{5}{11}\sqrt[5]{x^{11}} + c$
- ד.  $4.5\sqrt[3]{x^2} + c$     ה.  $\frac{4}{7}\sqrt[4]{x^7} + \frac{16}{3}\sqrt[4]{x^3} + c$     ו.  $\frac{2}{7}\sqrt{x^7} - 2\sqrt{x^3} + 10\sqrt{x} + c$
- ז.  $\frac{3}{8}\sqrt[3]{(2x-3)^4} + c$     ח.  $-0.8\sqrt[4]{(5-x)^5} + c$     ט.  $\frac{24}{49}\sqrt[8]{(7x+12)^7} + c$
- י.  $-\frac{35}{8}\sqrt[5]{(14-2x)^4} + c$
- (2) א.  $45\frac{1}{3}$     ב. 33.76    ג.  $18\frac{2}{3}$
- (3)  $f(x) = x^2 - \frac{3}{16}\sqrt[3]{(4x)^4} + 2$
- (4)  $f(x) = \frac{3}{20}\sqrt[3]{(5x+7)^4} - 12.15$
- (5)  $f(x) = 12.5\sqrt[5]{(x+1)^4} + \frac{1}{3}(x-1)^3 - 18\frac{1}{6}$
- (6) א.  $(0,0)$  ;  $(8,0)$     ב. 16 יח"ש = S
- (7) א.  $x > 0$     ב.  $(2,0)$     ג. 18.149 יח"ש = S
- (8)  $\frac{S_1}{S_2} = 4$
- (9) א.  $(\frac{1}{8}, 2)$     ב.  $a = 8$
- (10) א.  $f(x) = \sqrt[4]{5x+6} - x$  ,  $a = 1$     ב.  $x \geq -1.2$     ג.  $(-1.2, 1.2)$
- ד.  $y = -\frac{27}{32}x + \frac{27}{16}$     ה. 0.48 יח"ש = S
- (11) א.  $(1,1)$     ב.  $\frac{11}{28}$  יח"ש = S
- (12) א.  $f(x) = (6-5x)^{\frac{1}{5}}$     ב.  $1\frac{5}{66}$  יח"ש = S

$$y = -2\frac{15}{16}x - \frac{45}{16} \quad \text{א. (13)} \quad \text{ב. } S = 4.56 \text{ יח"ש}$$

$$k = \left(\frac{3}{8}\right)^{1.5} = 0.2296.. \quad \text{ג. } (0,0), \left(\frac{1}{8}, 0\right), \left(-\frac{1}{8}, 0\right) \quad \text{ב.} \quad \text{א. כל } x \quad \text{(14)}$$

# קורס מתמטיקה להנדסאי טכנולוגיות מים

פרק 33 - משוואות דיפרנציאליות ליניאריות מסדר ראשון

תוכן העניינים

1. מבוא	..... (ללא ספר)
2. הפרדת משתנים	..... 537
3. משוואה הומוגנית	..... 539
4. משוואה מהצורה $(ax+by+c)dx+(dx+ey+f)dy=0$	..... 541
5. משוואה מדויקת	..... 542
6. גורם אינטגרציה	..... 544
7. משוואה לינארית מסדר ראשון	..... 547
8. משוואת ברנולי	..... 549
9. משוואת ריקטי	..... 550
10. משוואות מסדר ראשון וממעלה גבוהה	..... 551
11. פתרונות גרפיים ונומריים למשוואה מסדר ראשון	..... 553
12. משפט הקיום והיחידות על שם פיאנו ופיקארד	..... 555

## הפרדת משתנים

### שאלות

פתרו את המשוואות הבאות :

$$(y \neq 0) \quad \frac{dy}{dx} = \frac{x^2}{y} \quad (1)$$

$$(1-x)y' = y^2 \quad (2)$$

$$yy'\sqrt{1+x^2} + x\sqrt{1+y^2} = 0 \quad (3)$$

$$y(2) = 1 ; (x-1)\frac{dy}{dx} = 4y \quad (4)$$

$$y(1) = -1 ; \frac{dy}{dx} = xy + 3y - 3x - 9 \quad (5)$$

$$(x^2y - 2 + 2x^2 - y)dx - (xy^2 - 4 - 4x + y^2)dy = 0 \quad (6)$$

$$dy = 2t(y^2 + 4)dt \quad (7)$$

$$\frac{dx}{dt} = x^2 - 2x + 2 \quad (8)$$

$$y(\pi) = 1 ; y' + y^2 \sin x = 0 \quad (9)$$

$$(\cos x \neq 0) \quad y(0) = 5 ; \frac{dy}{dx} = y \sec^2 x \quad (10)$$

$$y(0) = 1 ; \frac{dy}{dx} = \frac{xy^3}{\sqrt{1+x^2}} \quad (11)$$

## תשובות סופיות

$$y = \pm \sqrt{\frac{2}{3}x^3 + k} \quad (1)$$

$$y = \frac{1}{\ln|1-x| - c}, \quad y = 0 \quad (2)$$

$$\sqrt{1+y^2} = -\sqrt{1+x^2} + c \quad (3)$$

$$\frac{1}{4} \ln|y| = \ln|x-1| \quad (4)$$

$$\ln|y-3| = \frac{x^2}{2} + 3x + \ln 4 - 3.5 \quad (5)$$

$$y = 2 \pm \sqrt{(x-1)^2 + k} \quad (6)$$

$$y = 2 \tan(2t^2 + k) \quad (7)$$

$$x = 1 + \tan(t + c) \quad (8)$$

$$y = -\frac{1}{\cos x} \quad (9)$$

$$\ln|y| = \tan x + \ln 5 \quad (10)$$

$$\frac{1}{-2y^2} = \sqrt{1+x^2} - 1.5 \quad (11)$$

## משוואה הומוגנית

### שאלות

פתרו את המשוואות בשאלות 1-8 :

$$(y^3 + x^3)dx + xy^2dy = 0 \quad (1)$$

$$y' = \frac{4y - 3x}{2x - y} \quad (2)$$

$$y^2 + x^2y' = xy' \quad (3)$$

$$(3xy + y^2)dx + (x^2 + xy)dy = 0 \quad (4)$$

$$\left(x - y \cos \frac{y}{x}\right)dx + x \cos \frac{y}{x} dy = 0 \quad (5)$$

$$y' = \frac{2xye^{(x/y)^2}}{y^2 + y^2e^{(x/y)^2} + 2x^2e^{(x/y)^2}} \quad (6)$$

$$y(1) = 0 ; \left(y + \sqrt{x^2 + y^2}\right)dx - xdy = 0 \quad (7)$$

$$(2x^2t - 2x^3)dt + (4x^3 - 6x^2t + 2xt^2)dx = 0 \quad (8)$$

$$(y^2 + x^2)dx + xy^n dy = 0 \quad (9)$$

א. מה צריך להיות הערך של הקבוע  $n$ , על מנת שהמשוואה תהיה הומוגנית?

ב. פתרו את המשוואה עבור הערך של  $n$  שנמצא בסעיף א.

## תשובות סופיות

$$-\ln|x| = \frac{1}{6} \ln|2(y/x)^3 + 1| + c, \quad y = -\frac{x}{2^{1/3}} \quad (1)$$

$$\ln|x| = \frac{1}{4} \ln|(y/x) - 1| - \frac{5}{4} \ln|(y/x) + 3| + c, \quad y = x, \quad y = -3x \quad (2)$$

$$-\ln|x| = \ln|(y/x)| - (y/x) + c, \quad y = 0 \quad (3)$$

$$-\ln|x| = \frac{1}{4} \ln|2(y/x)^2 + 4| + c, \quad y = 0, \quad y = -2x \quad (4)$$

$$\ln|x| = -\sin(y/x) + c \quad (5)$$

$$\ln(1 + e^{(x/y)^2}) = \ln|y| + c, \quad y = 0 \quad (6)$$

$$\ln x = \sinh^{-1}\left(\frac{x}{y}\right) + c \quad (7)$$

$$\ln|t| = -\frac{1}{2} \ln|(x/t) - (x/t)^2| + c, \quad x(t) = 0, \quad x(t) = t \quad (8)$$

$$n = 1, \quad \ln|x| = -\frac{1}{4} \ln(1 + 2(y/x)^2) + c \quad (9)$$

## משוואה מהצורה $(ax + by + c)dx + (dx + ey + f)dy = 0$

### שאלות

פתרו את המשוואות הבאות:

$$\frac{dy}{dx} = \frac{x+y+1}{x+y+2} \quad (1)$$

$$(x+2y+3)dx + (2x+4y-1)dy = 0 \quad (2)$$

$$\frac{dy}{dx} = \frac{2y-x+5}{2x-y-4} \quad (3)$$

$$\frac{dx}{dy} = \frac{3+x+2y}{1+x+y} \quad (4)$$

$$(2x+y-3)dx + (x+y-1)dy = 0 \quad (5)$$

### תשובות סופיות

$$x = \frac{1}{2}(x+y+1) + \frac{1}{4}\ln(2(x+y+1)+1) + \frac{1}{4} + c, \quad y = -x - 1.5 \quad (1)$$

$$\ln|x-1| = \frac{1}{2}\ln\left|\frac{y+2}{x-1} - 1\right| - \frac{3}{2}\ln\left|\frac{y+2}{x-1} + 1\right| + c, \quad y = x - 3, \quad y = -x - 1 \quad (2)$$

$$0 = 14y - (x+2y+3)^2 + k \quad (3)$$

$$\ln|x-1| = \frac{1}{4}\left[-(2+\sqrt{2})\ln\left|\sqrt{2}-2\frac{y+2}{x-1}\right| + (-2+\sqrt{2})\ln\left|\sqrt{2}+2\frac{y+2}{x-1}\right|\right] + c \quad (4)$$

$$y = \sqrt{0.5x-2} - \sqrt{0.5}, \quad y = -\sqrt{0.5x-2} + \sqrt{0.5}$$

$$\ln|x-2| = \frac{1}{2}\ln\left(2+2\frac{y+1}{x-2} + \left(\frac{y+1}{x-2}\right)^2\right) + c \quad (5)$$

## משוואה מדויקת

### שאלות

פתרו את המשוואות בשאלות 1-6:

$$(2x^3 + 3y)dx + (3x + y - 1)dy = 0 \quad (1)$$

$$(y^2 e^{-xy^2} + 4x^3)dx + (2xye^{-xy^2} - 3y^2)dy = 0 \quad (2)$$

$$(y \cos x + 2xe^y)dx + (\sin x + x^2 e^y - 1)dy = 0 \quad (3)$$

$$(1 + y^2 \sin 2x)dx - 2y \cos^2 x dy = 0 \quad (4)$$

$$\left( y^2 - \frac{y}{x(x+y)} + 2 \right) dx + \left( \frac{1}{x+y} + 2y(x+1) \right) dy = 0 \quad (5)$$

$$(2x^2 t - 2x^3)dt + (4x^3 - 6x^2 t + 2xt^2)dx = 0 \quad (6)$$

$$(7) \quad \text{נתונה המשוואה } (3x^2 + ye^{-xy})dx + (2y^3 + kxe^{-xy})dy = 0, \text{ כאשר } k \text{ קבוע.}$$

א. מה צריך להיות הערך של הקבוע  $k$ , על מנת שהמשוואה תהיה מדויקת?

ב. פתור את המשוואה עבור הערך של  $k$  שנמצא בסעיף א.

## תשובות סופיות

$$0.5x^4 + 3yx + 0.5y^2 - y = c \quad (1)$$

$$e^{xy^2} + x^4 - y^3 = c \quad (2)$$

$$y \sin x + x^2 e^y - y = c \quad (3)$$

$$x - \frac{y^2 \cos 2x}{2} - \frac{y^2}{2} = c \quad (4)$$

$$\ln|x+y| + (x+1)y^2 + 2x - \ln|x| = c \quad (5)$$

$$x^2 t^2 - 2x^3 t + x^4 = c \quad (6)$$

$$k=1, \quad x^3 + e^{xy} + \frac{y^4}{2} = c \quad (7)$$

## גורם אינטגרציה

### שאלות

(1) הראו שהמשוואה  $x^2y^3 + x(1+y^2)y' = 0$  אינה מדויקת, ופתרו אותה בעזרת גורם האינטגרציה  $\frac{1}{xy^3}$ .

(2) הראו שהמשוואה  $\left(\frac{\sin y}{y} - 2e^{-x} \sin x\right) dx + \left(\frac{\cos y + 2e^{-x} \cos x}{y}\right) dy = 0$  אינה מדויקת, ופתרו אותה בעזרת גורם האינטגרציה  $ye^x$ .

(3) הראו שהמשוואה  $(x+2)\sin y dx + x \cos y dy = 0$  אינה מדויקת, ופתרו אותה בעזרת גורם האינטגרציה  $xe^x$ .

פתרו את המשוואות בשאלות 4-9:

$$(x^2 + y^2 + x) dx + (xy) dy = 0 \quad (4)$$

$$(x - x^2 - y^2) dx + y dy = 0 \quad (5)$$

$$(2xy^3 + y^4) dx + (xy^3 - 2) dy = 0 \quad (6)$$

$$(y^2 - y) dx + x dy = 0 \quad (7)$$

$$(y - xy^2) dx + (x + x^2y^2) dy = 0 \quad (8)$$

$$y(1) = -1 ; \quad y' = \frac{3yx^2}{x^3 + 2y^4} \quad (9)$$

$$(10) \quad M(x, y)dx + N(x, y)dy = 0 \text{ נתונה מד"ר לא מדויקת}$$

א. הוכיחו: אם  $\frac{M_y - N_x}{N} = f(x)$ , אז  $e^{\int f(x)dx}$  הוא גורם אינטגרציה.

ב. הוכיחו: אם  $\frac{M_y - N_x}{M} = g(y)$ , אז  $e^{-\int g(y)dy}$  הוא גורם אינטגרציה.

$$(11) \quad (y^4 - 4xy)dx + (2xy^3 - 3x^2)dy = 0 \text{ נתונה המשוואה הדיפרנציאלית}$$

מצאו את גורם האינטגרציה של המשוואה, בהנחה שהוא פונקציה של  $xy$  בלבד. כלומר, גורם האינטגרציה מהצורה  $\mu(xy)$ .

$$(12) \quad (5x^2 + 3y^3 + 2xy)dx + (3x^2 + 3xy^2 + 6y^3)dy = 0 \text{ נתונה המשוואה}$$

מצאו את גורם האינטגרציה, בהנחה שהוא מהצורה  $\mu(x+y)$ .

$$(13) \quad M(x, y)dx + N(x, y)dy = 0 \text{ נתונה המשוואה הדיפרנציאלית}$$

מצאו תנאי על המשוואה, על מנת שיהיה לה גורם אינטגרציה שהוא פונקציה של  $\frac{x}{y}$  בלבד.

$$(14) \quad (x^2 y^3)dx + (x + xy^2)dy = 0 \text{ נתונה המשוואה הדיפרנציאלית}$$

מצאו את גורם האינטגרציה של המשוואה, בהנחה שהוא פונקציה של  $x^\alpha y^\beta$ . כלומר, גורם אינטגרציה מהצורה  $\mu(x^\alpha y^\beta)$ .

$$(15) \quad M(x, y)dx + N(x, y)dy = 0 \text{ נתונה המשוואה הדיפרנציאלית}$$

א. מצאו תנאי על המשוואה, על מנת שיהיה לה גורם אינטגרציה שהוא פונקציה של  $xy$  בלבד.

ב. היעזרו בסעיף א' על מנת למצוא את גורם האינטגרציה של המשוואה  $(y - xy^2 \ln x)dx + xdy = 0$ .

$$(16) \quad M(x, y)dx + N(x, y)dy = 0 \text{ נתונה המשוואה הדיפרנציאלית}$$

מצאו תנאי על המשוואה על מנת שיהיה לה גורם אינטגרציה שהוא פונקציה של  $x+y$  בלבד.

## תשובות סופיות

$$0.5x^2 + \frac{y^{-2}}{-2} + \ln|y| = c \quad (1)$$

$$e^x \sin y + 2y \cos x = c \quad (2)$$

$$\sin y \cdot e^x \cdot x^2 = c \quad (3)$$

$$0.25x^4 + 0.5x^2y^2 + \frac{x^3}{3} = c \quad (4)$$

$$\frac{1}{2} \ln(x^2 + y^2) - x = c \quad (5)$$

$$x^2 + xy + \frac{1}{y^2} = c \quad (6)$$

$$x - \frac{x}{y} = c \quad (7)$$

$$-\ln x - \frac{1}{xy} + y = c \quad (8)$$

$$-\frac{x^3}{y} + \frac{2y^3}{3} = \frac{1}{3} \quad (9)$$

שאלת הוכחה. (10)

$$\mu(xy) = (xy)^2 \quad (11)$$

$$\mu(x+y) = (x+y)^2 \quad (12)$$

$$\text{if: } \frac{y^2(M_y - N_x)}{yN + xM} = h\left(\frac{x}{y}\right) \quad \text{then: I.F.: } \mu = e^{\int \frac{y^2(M_y - N_x)}{yN + xM}} \quad (13)$$

$$\mu = \frac{1}{xy^3} \quad (14)$$

$$\mu = \frac{1}{x^2y^2} \quad \text{ב.} \quad \text{if: } \frac{M_y - N_x}{yN - xM} = h(xy) \quad \text{then: I.F.: } \mu = e^{\int \frac{M_y - N_x}{yN - xM}} \quad \text{א.} \quad (15)$$

$$\text{if: } \frac{M_y - N_x}{N - M} = h(x+y) \quad \text{then: I.F.: } \mu = e^{\int \frac{M_y - N_x}{N - M}} \quad (16)$$

## משוואות ליניאריות מסדר ראשון

### שאלות

פתרו את המשוואות הבאות :

$$\frac{dy}{dx} + 2xy = 4x \quad (1)$$

$$xy' = y + x^3 + 3x^2 - 2x \quad (2)$$

$$(x > 2) \quad (x-2)y' = y + 2(x-2)^3 \quad (3)$$

$$(x > 0) \quad x^3y' + (2-3x^2)y = x^3 \quad (4)$$

$$y(0) = 1 ; \quad \frac{dy}{dt} + y = 2 + 2t \quad (5)$$

$$(\sin x > 0) \quad \frac{dy}{dx} + y \cot x = 5e^{\cos x} \quad (6)$$

$$(\sin x > 0) \quad y' - 2y \cot x = 1 \quad (7)$$

$$z(\pi) = 0 ; \quad x^2z' + 2xz = \cos x \quad (8)$$

$$ydx = (2x + y^3)dy \quad (9)$$

**תשובות סופיות**

$$y = 2 + C \cdot e^{-x^2} \quad (1)$$

$$y = x \left[ \frac{x^2}{2} + 3x - 2 \ln x + C \right] \quad (2)$$

$$y = (x-2) [x^2 - 4x + C] \quad (3)$$

$$y = \frac{1}{2} x^3 + C \cdot x^3 e^{\frac{1}{x^2}} \quad (4)$$

$$y = 2t + e^{-t} \quad (5)$$

$$y = \frac{1}{\sin x} [-5e^{\cos x} + C] \quad (6)$$

$$y = \sin^2 x [-\cot x + C] \quad (7)$$

$$z = \frac{\sin x}{x^2} \quad (8)$$

$$x(y) = y^2 (y + c) \quad (9)$$

## משוואות ברנולי

### שאלות

פתרו את המשוואות הבאות :

$$x^2 y' + 2xy - y^3 = 0 \quad (1)$$

$$(x^2 + 1)y' - 2xy - y^2 = 0 \quad (2)$$

$$x \frac{dy}{dx} - 2y = x^2 y^{1/2} \quad (3)$$

$$y(1) = 2.5 ; y' - \left( \frac{1}{x} + 5x^4 \right) y = -x^3 y^2 \quad (4)$$

$$(\sin x \neq 0) \quad z' - \cot x \cdot z = \frac{1}{\sin x} z^3 \quad (5)$$

### תשובות סופיות

$$y = \pm \frac{1}{\sqrt{\frac{2}{5x} + c \cdot x^4}} \quad (1)$$

$$y = \frac{x^2 + 1}{-x + C} \quad (2)$$

$$y = x^2 \left( \frac{x}{2} + C \right)^2 \quad (3)$$

$$y = \frac{5xe^{x^5}}{e^{x^5} + e} \quad (4)$$

$$z = \pm \sqrt{\frac{\sin^2 x}{\cos x + C}} \quad (5)$$

## משוואת ריקטי

### שאלות

פתרו את המשוואות הבאות :

$$y' = e^{2x} + \left(1 + \frac{5}{2}e^x\right)y + y^2 \quad (1)$$

$$y' = 1 + (x - y)^2 \quad (2)$$

$$y' = 1 + x + 2x^2 \cos x - (1 + 4x \cos x)y + 2y^2 \cos x \quad (3)$$

### תשובות סופיות

$$y(x) = -0.5e^x + \frac{e^x}{-\frac{2}{3} + Ce^{-1.5x}} \quad (1)$$

$$y(x) = x + \frac{1}{-x + C} \quad (2)$$

$$y(x) = x + \frac{1}{\cos x - \sin x + Ce^x} \quad (3)$$

## משוואות מסדר ראשון וממעלה גבוהה

הערה: נושא זה לא נלמד בדרך כלל; בדקו עם המרצה אם הוא נדרש או לא.

הערת סימון: בתת-פרק זה נסמן  $p = y' = \frac{dy}{dx}$ .

### שאלות

פתרו את המשוואות הבאות:

$$(p = y') \quad 4x^2 p^2 - 4x^2 p - 2xy - y^2 = 0 \quad (1)$$

$$(p = y') \quad x^2 p^2 + xyp - 6y^2 = 0 \quad (2)$$

$$(p = y') \quad xyp^2 + (x^2 + xy + y^2)p + x^2 + xy = 0 \quad (3)$$

$$(p = y') \quad y = 2px + p^4 x^2 \quad (4)$$

$$(p = y') \quad xp^2 - 2yp + 4x = 0 \quad (5)$$

$$(p = y') \quad (y > 0) \quad 6p^2 y^2 + 3px - y = 0 \quad (6)$$

**תשובות סופיות**

$$(y - 2x - \sqrt{x} \cdot c_1) \cdot \left( \ln|y| + \frac{1}{2} \ln|x| - c_2 \right) = 0 \quad (1)$$

$$(\ln|y| - 2\ln|x| - c_1) \cdot (\ln|y| + 3\ln|x| - c_2) = 0 \quad (2)$$

$$\left( y + 0.5x - \frac{c_1}{x} \right) \cdot \left( \frac{y^2}{2} + \frac{x^2}{2} - c_2 \right) = 0, \quad x > 0 \quad (3)$$

$$y = \pm 2\sqrt{cx} + c^2 \quad (4)$$

$$y = \frac{1}{2}cx^2 + \frac{2}{c} \quad (5)$$

$$6\left(\frac{c}{y^2}\right)^2 y^2 + 3\left(\frac{c}{y^2}\right)x - y = 0 \quad (6)$$

## פתרונות גרפיים ונומריים למשוואה מסדר ראשון

### שאלות

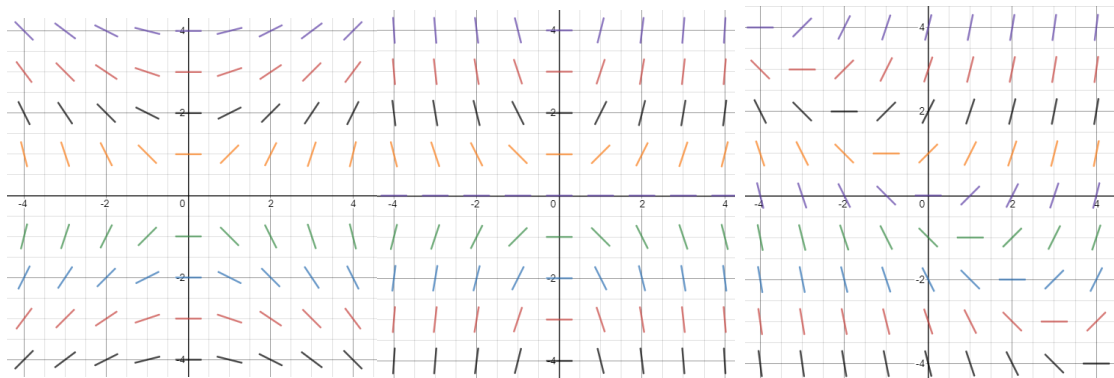
(1) שרטטו שדה כיוונים למשוואה הדיפרנציאלית  $y' = 2y - x$ .

(2) התאימו כל אחת מהמשוואות שבסעיפים א'-ג' לשדה הכיוונים שלה:

א.  $y' = \frac{x}{y}$

ב.  $y' = xy$

ג.  $y' = x + y$



איור 3

איור 2

איור 1

(3) נתונה המד"ר  $y' = y - x$ ,  $y(0) = 2$ .

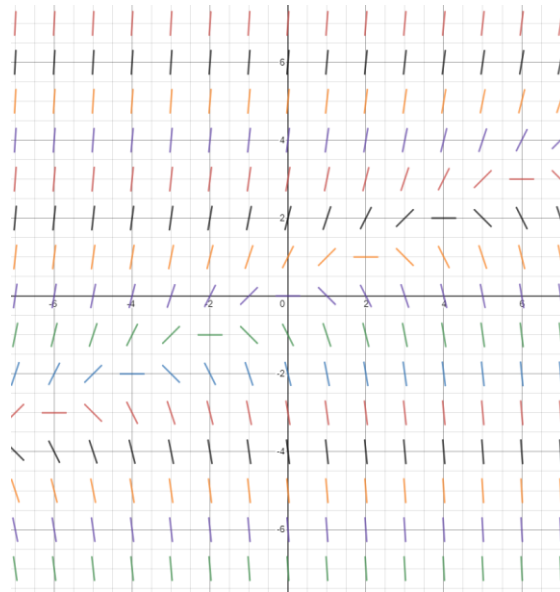
מצאו בקירוב את  $y(1)$  בעזרת שיטת אוילר עם  $h = 0.1$ .

(4) נתונה המד"ר  $y' = x + y$ ,  $y(1) = 2$ .

מצאו בקירוב את  $y(2)$  בעזרת שיטת אוילר עם  $h = 0.2$ .

## תשובות סופיות

(1)



(2) איור 1 – סעיף ג', איור 2 – סעיף ב', איור 3 – סעיף א'.

(3)  $y(1) = 4.593$

(4)  $y(2) = 6.95328$

## משפט הקיום והיחידות על שם פיאנו ופיקארד

### שאלות

(1) נתונה הבעיה  $y(2) = -1$ ,  $y' = -\frac{1}{2}x + \sqrt{\frac{1}{4}x^2 + y}$ .

א. הוכיחו ש-  $y_1(x) = -x + 1$ ,  $y_2(x) = -\frac{1}{4}x^2$  הם פתרונות לבעיה.

קבעו באיזה תחום תקף כל אחד מהפתרונות.

ב. הסבירו מדוע קיום שני פתרונות לא סותר את משפט היחידות.

(2) נתונה הבעיה  $y(0) = 0$ ,  $y' = \sqrt[3]{y} + 4$ .

א. הוכיחו שהבעיה מקיימת את תנאי משפט הקיום.

ב. הוכיחו שהבעיה אינה מקיימת את תנאי היחידות.

ג. הוכיחו שלבעיה קיים פתרון יחיד, ומצאו אותו.

(3) פתרו את הבעיה  $y(4) = 0$ ,  $y' = (x^2 + y^2) \cos\left(\frac{\pi}{2} - y\right) + x^2 \sin y$ .

(4) נתונה הבעיה  $y(0) = 4$ ,  $y' = (y-1)(x^2 + y)^5$ .

א. הראו שכל פתרון של הבעיה בהכרח חסום מלמטה.

ב. הראו שכל פתרון של הבעיה בהכרח עולה בתחום הגדרתו.

(5) נתונה המד"ר  $ydx = (2x + y^3)dy$ .

א. הראו שעבור  $x = x(y)$  המד"ר ליניארית מסדר ראשון,

ופתרו אותה ככזאת.

ב. קבעו, על פי משפט הקיום והיחידות למד"ר ליניארית,

מהן נקודות ההתחלה  $(x_0, y_0)$ , כך שלמד"ר הנתונה קיים פתרון יחיד,

העובר דרך  $(x_0, y_0)$ .

צטטו את המשפט עבור המד"ר הליניארית שקיבלתם.

מהו הקטע הארוך ביותר שבו קיים פתרון יחיד העובר דרך  $(x_0, y_0)$ ?

$$(6) \quad \begin{cases} y' = 2xy \\ y(0) = 1 \end{cases} \quad \text{נתונה בעיית ההתחלה}$$

- א. מצאו 3 קירובי פיקארד לפתרון הבעיה.  
 ב. מצאו צורה כללית לקירוב פיקארד מסדר  $n$  (הוכיחו באינדוקציה).  
 ג. פתרו את המד"ר ישירות, והראו כי קירוב פיקארד מסדר  $n$  מתכנס לפתרון כאשר  $n \rightarrow \infty$ .

$$(7) \quad \begin{cases} y' = \frac{1}{x} |\sin y| \\ y(1) = \pi \end{cases} \quad \text{כמה פתרונות יש לבעיית ההתחלה} \quad ? (x > 0)$$

$$(8) \quad \begin{cases} y' = 5 + 5y^2 \\ y(0) = 0 \end{cases} \quad \text{נתונה בעיית ההתחלה}$$

- א. מצאו קטע כלשהו שבו לבעיה קיים פתרון יחיד.  
 ב. מצאו את הקטע הגדול ביותר, שבו משפט הקיום והיחידות יודע להגיד שקיים פתרון יחיד.  
 ג. הראו, על ידי חישוב ישיר, שקיים קטע גדול יותר מהקטע שנמצא בסעיף ב', בו קיים לבעיה פתרון יחיד.

$$(9) \quad \begin{cases} y' = -\frac{x}{y} \quad (y > 0) \\ y(0) = 1 \end{cases} \quad \text{נתונה בעיית ההתחלה}$$

- א. מצאו קטע כלשהו שבו לבעיה קיים פתרון יחיד.  
 ב. מצאו את הקטע הגדול ביותר, שבו משפט הקיום והיחידות יודע להגיד שקיים פתרון יחיד.  
 ג. הראו, על ידי חישוב ישיר, שקיים קטע גדול יותר מהקטע שנמצא בסעיף ב', בו קיים לבעיה פתרון יחיד.

$$(10) \quad \begin{cases} y' = x + \sin y \\ y(x_0) = y_0 \end{cases} \quad \text{הראו כי לבעיה יש פתרון יחיד על כל הישר הממשי.}$$

$$(11) \quad \begin{cases} y' = x \cdot \sin xy \\ y(x_0) = y_0 \end{cases} \quad \text{הראו כי לבעיה יש פתרון יחיד על כל הישר הממשי.}$$

$$(12) \quad \begin{cases} y' = xye^{-y^2} \\ y(x_0) = y_0 \end{cases} \quad \text{הראו כי לבעיה יש פתרון יחיד על כל הישר הממשי.}$$

## תשובות סופיות

- (1) א. שאלת הוכחה. ב. שאלת הסבר. ג. שאלת הוכחה.
- (2) א. שאלת הוכחה. ב. שאלת הוכחה. ג. שאלת הוכחה.
- (3)  $y(x) = 0$
- (4) א. שאלת הוכחה. ב. שאלת הוכחה.
- (5) א. ראו שאלה אחרונה בנושא 'מד"ר ליניארית מסדר ראשון'.  
ב. כל נקודת התחלה  $(x_0, y_0)$ , שעבורה  $y_0 \neq 0$ .  
הקטע הארוך ביותר:  $(0, \infty)$  או  $(-\infty, 0)$ .
- (6) א.  $y_0(x) = 1, y_1(x) = 1 + x^2, y_2(x) = 1 + \frac{x^2}{1!} + \frac{x^4}{2!}, y_3(x) = 1 + \frac{x^2}{1!} + \frac{x^4}{2!} + \frac{x^6}{3!}$   
ב.  $y_n(x) = 1 + x^2 + \frac{x^4}{2!} + \frac{x^6}{3!} + \dots + \frac{x^{2n}}{n!}$ . ג. הוכחה.
- (7) אחד.
- (8) א.  $[-0.08, 0.08]$  ב.  $[-0.1, 0.1]$  ג. הוכחה.
- (9) א.  $\left[-\frac{1}{4}, \frac{1}{4}\right]$  ב.  $[-0.5, 0.5]$  ג. הוכחה.
- (10) הוכחה.
- (11) הוכחה.
- (12) הוכחה.