

קורס מכינה במתמטיקה (השלמה ל 3 יח"ל)



תוכן העניינים

1. מבוא לאלגברה..... 1
2. משוואות ממעלה ראשונה..... (ללא ספר)
3. משוואות ממעלה שנייה..... (ללא ספר)
4. משוואות ממעלה שלישית ומעלה..... (ללא ספר)
5. מבוא לפונקציות..... (ללא ספר)
6. הפונקציה הקווית..... (ללא ספר)
7. הפונקציה הריבועית..... (ללא ספר)
8. בעיות מילוליות יסודיות..... (ללא ספר)
9. בעיות מילוליות בשני נעלמים..... (ללא ספר)
10. בעיות מילוליות עם אחוזים..... (ללא ספר)
11. בעיות מילוליות ממעלה שנייה - להעשרה..... (ללא ספר)
12. סדרה חשבונית..... (ללא ספר)
13. סדרה הנדסית..... (ללא ספר)
14. טריגונומטריה במישור - רמה יסודית..... (ללא ספר)
15. טריגונומטריה במישור - רמה מתקדמת..... (ללא ספר)
16. גיאומטריה אנליטית - הישר..... 47
17. גיאומטריה אנליטית - המעגל..... 59
18. חשבון דיפרנציאלי - פונקציה פולינומית..... (ללא ספר)
19. חשבון דיפרנציאלי - פונקציה רציונאלית..... (ללא ספר)
20. חשבון דיפרנציאלי - פונקצית שורש..... (ללא ספר)
21. חשבון דיפרנציאלי - בעיות מינימום מקסימום..... (ללא ספר)
22. חשבון אינטגרלי..... (ללא ספר)

קורס מכינה במתמטיקה (השלמה ל 3 יח"ל)

פרק 1 - מבוא לאלגברה

תוכן העניינים

1. מספרים מכוונים 1
2. חזקות ושורשים עם מספרים מכוונים 5
3. סדר פעולות חשבון עם מספרים מכוונים 7
4. אחוזים 8
5. כפל וחילוק שברים 14
6. חיבור וחסור שברים 16
7. בעיות יסודיות באחוזים 20
8. חזרה על תבניות מספר 22
9. כינוס איברים 24
10. פישוט ביטויים על ידי פתיחת סוגריים 26
11. פישוט ביטויים באמצעות נוסחאות הכפל המקוצר 29
12. פירוק לגורמים של ביטויים אלגברים 31
13. פירוק הטרינום 34
14. שברים אלגברים 36
15. כפל וחילוק של שברים אלגברים 40
16. חיבור וחסור של שברים אלגברים 42
17. שברים כפולים 46

מספרים מכוונים:

סיכום כללי:

מספרים מכוונים הם מספרים שיכולים לקבל סימן חיובי או שלילי, כגון:

- בקניון גדול ישנן קומות 1, 2, 3, 4, וכן חניונים הממוקמים בקומות 1-, 2-, ו-3-.
- גובה פני הים מוגדר להיות 0 מטרים. העיר חיפה נמצאת כ-103 מטרים מעל פני הים בעוד שים המלח נמצא בגובה 426- מטרים.

כללים:

- כאשר מחברים שני מספרים בעלי סימנים זהים, מחברים את המספרים עצמם והסימן נשאר.
- כאשר מחברים שני מספרים בעלי סימנים מנוגדים, מחסירים את המספרים זה מזה (הקטן מהגדול) וסימן התוצאה כסימן המספר הגדול מביניהם.
- כפל וחילוק יתבצע בשני חלקים:
 - ביצוע הפעולה על המספרים עצמם.
 - קביעת הסימן של התוצאה באופן הבא:
 - כפל או חילוק של שני מספרים בעלי אותו סימן - התוצאה תהיה חיובית.
 - כפל או חילוק של שני מספרים שונים סימן - התוצאה תהיה שלילית.

הערה:

אם יש רצף של מכפלות (או חילוקים), סימן התוצאה תלוי במספר הפעמים שבהם מופיע סימן שלילי (-). אם הסימן מופיע מספר זוגי של פעמים התוצאה חיובית, ואם הוא מופיע מספר אי-זוגי של פעמים אזי התוצאה שלילית.

שאלות:

1) סמנו את המספרים הבאים על ציר המספרים בהתאמה:

$$-3\frac{1}{2}, 4, 1\frac{1}{3}, -5, -\frac{1}{2}, 2, 0, \frac{1}{2}, -2$$



2) חשבו את ערכי הביטויים הבאים:

ב. $-3-2$

א. $3+2$

ד. $-3+2$

ג. $3-2$

ו. $7+10$

ה. $-1-4$

ח. $-7+3$

ז. $-6+5$

3) חשבו את ערכי הביטויים הבאים:

ב. $5-8-12+17$

א. $5+7-23+1$

ד. $-4-11+2+9$

ג. $3-14+2+6$

ו. $-7-13+5-3$

ה. $6-21+3-7$

4) חשב את ערכי הביטויים הבאים:

ב. $4 \cdot (-7)$

א. $4 \cdot 9$

ד. $(-5) \cdot (-3)$

ג. $(-6) \cdot (-5)$

ו. $(-8) \cdot 5$

ה. $(-2) \cdot 8$

ח. $2 \cdot 3 \cdot 3$

ז. $(-2) \cdot (-3) \cdot (-3)$

י. $(-2) \cdot (-3) \cdot 3$

ט. $(-2) \cdot 3 \cdot (-3)$

יב. $(-2) \cdot (-3) \cdot (-3) \cdot (-2)$

יא. $2 \cdot 3 \cdot (-3)$

יד. $1 \cdot (-2) \cdot (-4) \cdot 2$

יג. $(-1) \cdot (-2) \cdot (-4) \cdot 2$

5) מהו הסימן של תוצאת המכפלה בכל מקרה :

א. $(-2) \cdot (-4) \cdot (-3) \cdot (-10) \cdot (-6) \cdot (-5)$

ב. $(-1) \cdot 2 \cdot 4 \cdot (-3) \cdot (-10) \cdot 6 \cdot (-5)$

ג. $(-1) \cdot 2 \cdot 4 \cdot (-3) \cdot (-10) \cdot (-6) \cdot (-5)$

ד. $(-1) \cdot 2 \cdot 4 \cdot (-3) \cdot (-10) \cdot 6 \cdot 5$

6) חשבו את ערכי הביטויים הבאים :

ב. $(-30) : 3$

א. $(-25) : (-5)$

ד. $(-32) : (-4)$

ג. $40 : (-10)$

ו. $4 : (-16)$

ה. $(-6) : 18$

7) חשבו את ערכי הביטויים הבאים :

ב. $\frac{42}{-6}$

א. $\frac{-60}{12}$

ד. $\frac{-12}{-3}$

ג. $\frac{32}{-4}$

8) מה התוצאה של כל אחת מהפעולות הבאות :

ב. $(-2) \cdot 0$

א. $0 : 5$

ד. $6 : 0$

ג. $0 \cdot (-3) \cdot 4$

ו. $0 - 4$

ה. $0 + 4$

תשובות סופיות:

(1) להלן מערכת הצירים:



- (2) א. 5 ב. -5 ג. 1 ד. -1 ה. -5
- ו. 17 ז. -1 ח. -4
- (3) א. -10 ב. 2 ג. -3 ד. -4 ה. -19 ו. -18
- (4) א. 36 ב. -28 ג. 30 ד. 15 ה. -16
- ו. -40 ז. -18 ח. 18 ט. 18 י. 18
- יא. -18 יב. 36 יג. -16 יד. 16
- (5) א. + ב. + ג. - ד. -
- (6) א. 5 ב. -10 ג. -4 ד. 8 ה. $-\frac{1}{3}$ ו. $-\frac{1}{4}$
- (7) א. -5 ב. -7 ג. -8 ד. 4
- (8) א. 0 ב. 0 ג. 0 ד. לא מוגדר ה. 4 ו. -4

חזקות ושורשים עם מספרים מכוונים:

סיכום כללי:

הגדרה:

פעולת החזקה היא צורה מקוצרת שמייצגת פעולת כפל של אותו מספר בעצמו מספר פעמים. סימון החזקה הוא באופן הבא:

$$a^n = \underbrace{a \cdot a \cdot a \cdot \dots \cdot a}_n$$

כאשר a נקרא הבסיס ו- n נקראת החזקה.

הערות:

- כאשר הבסיס חיובי, התוצאה תמיד תהיה חיובית ללא קשר האם החזקה היא זוגית או אי-זוגית.
- כאשר הבסיס שלילי, התוצאה תהיה חיובית אם החזקה היא זוגית ושלילית אם החזקה היא אי-זוגית.

הגדרה:

פעולת השורש היא הפוכה לפעולת החזקה והיא מאפשרת למצוא את בסיס החזקה. סימון השורש הוא באופן הבא:

$$\sqrt[n]{a}$$

כאשר a נקרא הבסיס ו- n נקרא סדר השורש.

הערות:

- שורש למספר זוגי יכול להיות מסדר זוגי או אי-זוגי.
- שורש למספר שלילי יכול להיות מסדר אי-זוגי בלבד.

שאלות:

(1) חשב את ערכי הביטויים הבאים:

- | | |
|--------------|---------------|
| א. 3^2 | ב. 3^3 |
| ג. $(-3)^3$ | ד. $(-2)^3$ |
| ה. 4^3 | ו. 3^4 |
| ז. $(-5)^3$ | ח. 10^4 |
| ט. $-(-3)^4$ | י. -5^4 |
| יא. -4^3 | יב. $-(-2)^6$ |

(2) חשב את ערכי הביטויים הבאים:

- | | |
|--------------------|----------------------|
| א. $\sqrt[3]{-27}$ | ב. $\sqrt[4]{625}$ |
| ג. $\sqrt[4]{-16}$ | ד. $\sqrt[5]{-32}$ |
| ה. $-\sqrt[4]{81}$ | ו. $-\sqrt[3]{1000}$ |

תשובות סופיות:

- | | | | | | |
|-----------|----------|--------------|---------|---------|---------|
| (1) א. 9 | ב. 27 | ג. -27 | ד. -8 | ה. 64 | ו. 81 |
| ז. -125 | ח. 10000 | ט. -81 | י. -625 | יא. -64 | יב. -64 |
| (2) א. -3 | ב. 5 | ג. לא מוגדר. | ד. -2 | ה. -3 | ו. -10 |

סדר פעולות חשבון עם מספרים מכוונים:

סיכום כללי:

סדר פעולות חשבון:

- פעולות כפל וחילוק קודמות לפעולות חיבור וחסור.
- פעולות חזקה ושורש קודמות לפעולות כפל וחילוק.
- סוגריים קודמים לכל.

שאלות:

1) חשב את ערכי הביטויים הבאים:

א. $\sqrt{81} + 3 \cdot 2^3 - 40 : 8$	ב. $(-3)^2 : 9 - 2 \cdot (-4^2)$
ג. $\sqrt{144} - 20 : 4 + 3 \cdot (-2)^2$	ד. $3 + 4 \cdot [-3 + 4 \cdot (-2)] + \sqrt{10 + 6}$
ה. $(-3)^4 : (-9) - 5 \cdot (-2)^3$	ו. $-\sqrt{9} + 5^2 : (-4 - 1) - 24 : 12 \cdot 3$
ז. $-2^5 : (-8) + 4^2 - 3 \cdot 5$	ח. $\sqrt[3]{-27} + 4 \cdot 3^2 - 2 \cdot 3^3$
ט. $[6 \cdot (-1)^4 - 10 \cdot (-1)^3] \cdot (-1)^5$	י. $(8 - \sqrt[3]{64}) \cdot (2 \cdot (-4) - \sqrt[3]{243})$
יא. $\frac{3^2 \cdot (8 - 2 \cdot 3)^3}{(5^2 \cdot 3 - 72) \cdot (-4)} + 2 \cdot \{15 - 20 : (4 + 3 \cdot 2)\}$	

תשובות סופיות:

1) א. 28	ב. 33	ג. 19	ד. -37	ה. 31	ו. -14
ז. 5	ח. -21	ט. -16	י. -44	יא. 20	

אחוזים:

סיכום כללי:

הגדרה כללית - שבר:

השבר הוא חלק מתוך השלם. מקובל לסמן שבר באמצעות קו שבר המפריד בין המונה (החלק העליון) למכנה (החלק התחתון) באופן הבא:

$$\frac{\text{מונה}}{\text{מכנה}}$$

ישנם שלושה סוגים אפשריים של שברים:

- שבר פשוט – בו המונה קטן מהמכנה (ולכן תמיד יהיה קטן מ-1).
- שבר מדומה – בו המונה גדול מהמכנה (יהיה גדול בערכו מ-1).
- שבר מעורב – המכיל שילוב של מספר שלם ושבר כלשהו.

שבר עשרוני:

שבר שהמכנה שלו הוא מספר המהווה כפולות של 10 כגון: 10, 100, 1000 ... שבר עשרוני מיוצג ע"י נקודה עשרונית אשר מבדילה בין החלק שלם לחלק השברי באופן הבא:

$$\underbrace{XX}_{\text{שברים שלמים}}.\underbrace{YYY}$$

כדי להמיר שבר פשוט לשבר עשרוני המכנה צריך להיות בכפולות של 10.

הגדרה - אחוז:

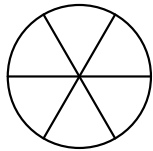
השבר $\frac{1}{100}$ מוגדר להיות אחוז אחד ומסומן באופן הבא: 1%.

באופן זה השבר $\frac{45}{100}$ יכתב: 45%, והשבר $\frac{145}{100}$ יכתב: 145%.

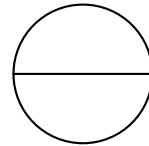
שאלות:

12) צבע את החלקים המתאימים בכל עיגול:

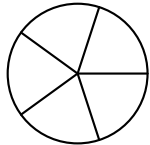
ב. צבע $\frac{1}{6}$ מהעיגול



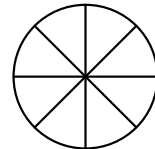
א. צבע $\frac{1}{2}$ מהעיגול



ד. צבע $\frac{2}{5}$ מהעיגול

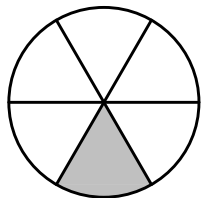


ג. צבע $\frac{3}{8}$ מהעיגול

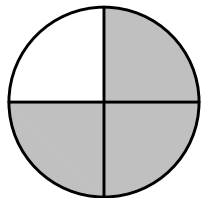


13) כתוב את השבר המתאים לחלקים הצבועים בכל אחד מהמקרים הבאים:

ב. שבר:



ד. שבר:



א. שבר:



ג. שבר:



14) הרחב את השברים הבאים :

א. השבר $\frac{1}{2}$ לפי מכנה 4, לפי מכנה 18, לפי מכנה 40.

ב. השבר $\frac{3}{5}$ לפי מכנה 10, לפי מכנה 25, לפי מכנה 60.

ג. השבר $\frac{5}{8}$ לפי מכנה 16, לפי מכנה 32, לפי מכנה 88.

15) צמצם את השברים הבאים ככל הניתן :

א. $\frac{25}{30}$	ב. $\frac{10}{30}$	ג. $\frac{6}{24}$	ד. $\frac{4}{20}$
ה. $\frac{35}{56}$	ו. $\frac{24}{42}$	ז. $\frac{36}{48}$	ח. $\frac{33}{121}$

16) המר את השברים המדומים הבאים לשברים מעורבים :

א. $-\frac{20}{3}$	ב. $\frac{19}{4}$	ג. $\frac{12}{5}$	ד. $\frac{22}{5}$
ה. $-\frac{34}{6}$	ו. $-\frac{50}{7}$	ז. $\frac{47}{8}$	ח. $\frac{60}{9}$

17) המר את השברים המעורבים הבאים לשברים מדומים :

א. $1\frac{2}{3}$	ב. $3\frac{5}{6}$	ג. $4\frac{1}{2}$	ד. $6\frac{1}{4}$
ה. $11\frac{3}{4}$	ו. $-2\frac{5}{8}$	ז. $-6\frac{2}{7}$	ח. $12\frac{7}{9}$

18) קבע איזה שבר גדול יותר בכל אחד מהמקרים הבאים :

א. $\frac{4}{10}$ או $\frac{3}{10}$	ב. $\frac{7}{6}$ או $\frac{7}{8}$
ג. $\frac{5}{6}$ או $\frac{2}{3}$	ד. $\frac{7}{12}$ או $\frac{5}{18}$

(19) המר את השברים העשרוניים הבאים לשברים פשוטים מצומצמים או מעורבים :

א. 0.7	ב. 0.07	ג. 0.007	ד. 0.34
ה. 0.304	ו. 0.65	ז. 1.2	ח. 1.02
ט. 1.42	י. 3.5	יא. 6.03	יב. 5.125

(20) המר את השברים הבאים לשברים עשרוניים :

א. $\frac{3}{10}$	ב. $\frac{3}{100}$	ג. $\frac{3}{1000}$	ד. $\frac{23}{1000}$
ה. $\frac{1}{2}$	ו. $\frac{3}{4}$	ז. $\frac{2}{5}$	ח. $\frac{4}{25}$
ט. $\frac{7}{50}$	י. $\frac{3}{20}$	יא. $\frac{7}{8}$	יב. $\frac{9}{16}$
יג. $9\frac{1}{10}$	יד. $3\frac{1}{5}$	טו. $4\frac{7}{8}$	טז. $-4\frac{1}{16}$

(21) כתוב את השברים הבאים בצורתם העשרונית (היעזר במחשבון וכתוב עד 3 ספרות אחרי הנקודה העשרונית) :

א. $\frac{2}{3}$	ב. $\frac{5}{6}$	ג. $\frac{3}{7}$	ד. $\frac{2}{11}$
------------------	------------------	------------------	-------------------

(22) המר מאחוזים לשברים פשוטים :

א. 25%	ב. 32%	ג. 64%	ד. 80%
ה. 120%	ו. 5%	ז. 300%	ח. 150%

(23) המר משברים פשוטים לאחוזים :

א. $\frac{3}{4}$	ב. $\frac{1}{8}$	ג. $\frac{4}{5}$	ד. $\frac{7}{20}$
ה. $\frac{11}{40}$	ו. $\frac{70}{125}$	ז. $\frac{5}{6}$	ח. $\frac{4}{9}$

תשובות סופיות:

(12) תשובה מודגמת בסרטון.

- (13) א. $\frac{1}{5}$ ב. $\frac{1}{6}$ ג. $\frac{2}{3}$ ד. $\frac{3}{4}$
- (14) א. $\frac{4}{8}, \frac{18}{36}, \frac{40}{80}$ ב. $\frac{30}{50}, \frac{75}{125}, \frac{180}{300}$ ג. $\frac{80}{128}, \frac{160}{256}, \frac{440}{700}$
- (15) א. $\frac{5}{6}$ ב. $\frac{1}{3}$ ג. $\frac{1}{4}$ ד. $\frac{1}{5}$ ה. $\frac{5}{8}$ ו. $\frac{4}{7}$
- (16) א. $-6\frac{2}{3}$ ב. $4\frac{3}{4}$ ג. $2\frac{2}{5}$ ד. $4\frac{2}{5}$ ה. $-5\frac{4}{6}$ ו. $-7\frac{1}{7}$
- (17) א. $\frac{5}{3}$ ב. $\frac{23}{6}$ ג. $\frac{9}{2}$ ד. $\frac{25}{4}$ ה. $\frac{47}{4}$ ו. $-\frac{21}{8}$
- (18) א. $\frac{4}{10}$ ב. $\frac{7}{6}$ ג. $\frac{5}{6}$ ד. $\frac{7}{12}$
- (19) א. $\frac{7}{10}$ ב. $\frac{7}{100}$ ג. $\frac{7}{1000}$ ד. $\frac{17}{50}$ ה. $\frac{38}{125}$ ו. $\frac{13}{20}$
- (20) א. 0.3 ב. 0.03 ג. 0.003 ד. 0.023 ה. 0.5 ו. 0.75
- א. 0.4 ב. 0.16 ג. 0.14 ד. 0.15 ה. 0.875 ו. -4.0625
- א. 0.5625 ב. 9.1 ג. 3.2 ד. 4.875 ה. 0.18
- (21) א. $0.\overline{6}$ ב. $0.\overline{83}$ ג. 0.428 ד. $0.\overline{18}$
- (22) א. $\frac{1}{4}$ ב. $\frac{8}{25}$ ג. $\frac{16}{25}$ ד. $\frac{4}{5}$ ה. $1\frac{1}{5}$ ו. $\frac{1}{20}$
- א. 3 ב. $1\frac{1}{2}$

23 א. 75% ב. 12.5% ג. 80% ד. 35% ה. 27.5% ו. 56%

ז. 83.333% ח. 44.444%

כפל וחילוק שברים:

סיכום כללי:

- כשכופלים שני שברים יש לכפול מונה במונה ומכנה במכנה.
 - במידה ומדובר במספר שלם הכופל שבר, יש לכפול אותו במונה.
 - במידה ומדובר בשברים מעורבים, יש להפוך אותם תחילה לשברים מדומים ורק אז לבצע את פעולת הכפל.
- כדי לחלק שברים, יש לכפול את השבר הראשון בהופכי של השבר השני.
 - הופכי של שבר מסוים מתקבל ע"י החלפת המונה במכנה.

שאלות:

(1) חשב את ערכי הביטויים הבאים:

$\frac{2}{9} \cdot \frac{8}{10}$ ג.	$\frac{2}{7} \cdot \frac{5}{6}$ ב.	$\frac{3}{5} \cdot \frac{3}{4}$ א.
$\frac{12}{25} \cdot 5$ ו.	$6 \cdot \frac{2}{3}$ ה.	$3 \cdot \frac{4}{5}$ ד.
$3\frac{3}{7} \cdot 2\frac{2}{5}$ ט.	$3\frac{1}{2} \cdot 4\frac{2}{5}$ ח.	$1\frac{3}{5} \cdot 2\frac{1}{4}$ ז.
$\frac{4^3}{5}$ יב.	$\frac{4}{5^3}$ יא.	$\left(\frac{4}{5}\right)^3$ י.

(2) חשב את ערכי הביטויים הבאים:

$\frac{3}{25} : \frac{7}{10}$ ג.	$\frac{3}{4} : \frac{1}{2}$ ב.	$\frac{2}{5} : \frac{4}{9}$ א.
$\frac{5}{6} : 3$ ו.	$10 : \frac{2}{3}$ ה.	$8 : \frac{2}{9}$ ד.
$2\frac{2}{5} : 1\frac{3}{15}$ ט.	$3\frac{3}{4} : 5\frac{5}{8}$ ח.	$\frac{2}{5} : 5$ ז.

תשובות סופיות:

- (1) א. $\frac{9}{20}$ ב. $\frac{5}{21}$ ג. $\frac{8}{45}$ ד. $2\frac{2}{5}$ ה. 4 ו. $2\frac{2}{5}$
- ז. $3\frac{3}{5}$ ח. $15\frac{2}{5}$ ט. $8\frac{8}{35}$ י. $\frac{64}{125}$ יא. $\frac{4}{125}$ יב. $12\frac{4}{5}$
- (2) א. $\frac{9}{10}$ ב. $1\frac{1}{2}$ ג. $\frac{6}{35}$ ד. 36 ה. 15 ו. $\frac{5}{18}$
- ז. $\frac{2}{25}$ ח. $\frac{2}{3}$ ט. 2

חיבור וחסור שברים:

סיכום כללי:

כפולה משותפת מינימלית:

בהינתן זוג מספרים a ו- b , המספר הקטן ביותר אשר תוצאת חלוקתו במספרים הנ"ל מניבה מספר שלם נקרא הכפולה המינימלית שלהם.

הערות:

- כפולה מינימלית יכולה להיות גם עבור יותר משני מספרים.
- הכפולה המינימלית תהיה המכנה המשותף בעת פעולות חיבור וחסור של שברים.

כללי החיבור והחסור של שברים:

- חיבור וחסור של שברים בעלי אותו המכנה מתבצע על המספרים שבמונה בלבד כאשר המכנה נשאר כפי שהוא.
 דוגמא: $\frac{2}{7} - \frac{3}{7} = \frac{2-3}{7} = \frac{-1}{7}$, $\frac{2}{7} + \frac{3}{7} = \frac{2+3}{7} = \frac{5}{7}$
- חיבור וחסור של שברים בעלי מכנים שונים מתבצע ע"י פעולת מכנה משותף.
 דוגמא: $\frac{1}{4} - \frac{5}{6} = \frac{3}{12} - \frac{10}{12} = \frac{3-10}{12} = -\frac{7}{12}$, $\frac{2}{5} + \frac{1}{3} = \frac{6}{15} + \frac{5}{15} = \frac{6+5}{15} = \frac{11}{15}$
- חיבור של שבר עם מספר שלם יתבצע באופן ישיר.
 דוגמא: $3 + \frac{1}{4} = 3\frac{1}{4}$
 חיסור של שבר ממספר שלם יתבצע ע"י הוצאת שלמים מהשבר.
 דוגמא: $3 - \frac{1}{4} = 2\frac{4}{4} - \frac{1}{4} = 2\frac{3}{4}$
 דרך נוספת היא ע"י העברת המספר השלם לשבר מדומה: $3 - \frac{1}{4} = \frac{12}{4} - \frac{1}{4} = \frac{11}{4} = 2\frac{3}{4}$
- חיבור וחסור של שברים מעורבים יתבצע ע"י העברתם לשברים מדומים תחילה.
 דוגמא: $3\frac{2}{5} + 2\frac{1}{6} = \frac{17}{5} + \frac{13}{6} = \frac{17 \cdot 6}{30} + \frac{13 \cdot 5}{30} = \frac{102+65}{30} = \frac{167}{30} = 5\frac{17}{30}$
 ניתן גם לפצל ולבצע את פעולת החיבור (או החיסור) של המספרים השלמים תחילה,

ולאחר מכן לבצע את הפעולה עבור השברים.

$$\text{דוגמא: } 2\frac{3}{4} - 5\frac{1}{3} = (2-5) + \left(\frac{3}{4} - \frac{1}{3}\right) = -3 + \left(\frac{9}{12} - \frac{4}{12}\right) = -3 + \frac{5}{12} = -2\frac{7}{12}$$

שאלות:

(1) מצא את הכפולה המשותפת המינימלית של המספרים הבאים:

- א. 2 ו-3 ב. 2 ו-4 ג. 3 ו-5 ד. 6 ו-10
 ה. 4 ו-10 ו. 4 ו-6 ז. 3, 5 ו-10 ח. 2, 3 ו-8

(2) חשב את ערכי הביטויים הבאים:

- | | |
|--|---|
| א. $\frac{1}{5} + \frac{3}{5}$ | ב. $\frac{5}{9} + \frac{2}{9}$ |
| ג. $\frac{4}{13} + \frac{9}{13}$ | ד. $\frac{7}{8} + \frac{7}{8}$ |
| ה. $\frac{7}{8} - \frac{3}{8}$ | ו. $\frac{8}{9} - \frac{7}{9}$ |
| ז. $\frac{2}{12} - \frac{5}{12}$ | ח. $\frac{2}{5} - \frac{6}{5}$ |
| ט. $\frac{2}{8} + \frac{5}{8} + \frac{6}{8}$ | י. $\frac{7}{15} + \frac{8}{15} - \frac{6}{15}$ |

(3) חשב את ערכי הביטויים הבאים:

- | | |
|--|---|
| א. $\frac{1}{2} + \frac{4}{3}$ | ב. $\frac{3}{5} + \frac{1}{10}$ |
| ג. $\frac{4}{6} - \frac{1}{12}$ | ד. $\frac{3}{6} - \frac{5}{8}$ |
| ה. $\frac{5}{4} + \frac{7}{2} + \frac{2}{8}$ | ו. $\frac{7}{3} + \frac{6}{5} + \frac{3}{10}$ |
| ז. $\frac{4}{7} - \frac{1}{6} + \frac{1}{2}$ | ח. $\frac{1}{4} + \frac{2}{8} - \frac{3}{5}$ |

(4) חשב את ערכי הביטויים הבאים:

א.	$2 + \frac{5}{6}$
ב.	$2 - \frac{5}{6}$
ג.	$2\frac{1}{4} + \frac{5}{6}$
ד.	$2\frac{1}{4} - \frac{5}{6}$
ה.	$3\frac{2}{3} + 4\frac{1}{4}$
ו.	$5\frac{7}{8} - 6\frac{1}{2}$
ז.	$2 + \frac{5}{6} - \frac{1}{9}$
ח.	$\frac{3}{4} - 1\frac{1}{5} + \frac{8}{20}$

(5) חשב את ערכי הביטויים הבאים:

א.	$\frac{1}{2} \cdot \left(1 - \frac{3}{4}\right) + 2\frac{1}{3}$
ב.	$\frac{3}{14} : \frac{2}{7} + \frac{1}{3} \cdot 2\frac{1}{4} - \frac{2}{5}$
ג.	$\frac{5}{11} \cdot 2\frac{3}{4} - 6 : \frac{2}{5}$
ד.	$2\frac{4}{5} : \frac{9}{10} \cdot \frac{6}{7} + \frac{1}{6}$
ה.	$\frac{5}{6} : \frac{3}{4} + \frac{2}{3} \cdot 3\frac{1}{4}$

תשובות סופיות:

- (1) א. 6 ב. 4 ג. 15 ד. 30 ה. 20 ו. 12
 ז. 30 ח. 24
- (2) א. $\frac{4}{5}$ ב. $\frac{7}{9}$ ג. 1 ד. $1\frac{3}{4}$ ה. $\frac{1}{2}$ ו. $\frac{1}{9}$
 ז. $-\frac{1}{4}$ ח. $-\frac{4}{5}$ ט. $1\frac{5}{8}$ י. $\frac{3}{5}$
- (3) א. $1\frac{5}{6}$ ב. $\frac{7}{10}$ ג. $\frac{7}{12}$ ד. $-\frac{1}{8}$ ה. 5 ו. $3\frac{5}{6}$
 ז. $\frac{19}{21}$ ח. $-\frac{1}{10}$
- (4) א. $2\frac{5}{6}$ ב. $1\frac{1}{6}$ ג. $3\frac{1}{12}$ ד. $1\frac{5}{12}$ ה. $7\frac{11}{12}$ ו. $-\frac{5}{8}$
 ז. $2\frac{13}{18}$ ח. $-\frac{1}{20}$
- (5) א. $2\frac{11}{24}$ ב. $1\frac{1}{10}$ ג. $-13\frac{3}{4}$ ד. $2\frac{5}{6}$ ה. $3\frac{5}{18}$

בעיות יסודיות באחוזים:

סיכום כללי:

נוסחה לביצוע חישובים עם אחוזים:

$$\text{תמורת האחוז} = \text{שלם} \cdot \frac{\text{אחוז}}{100}$$

למשל, בהינתן גודל שלם 120, אשר יש לחשב כמה הם 40 אחוזים ממנו, נקבל לפי

$$\text{הנוסחה: } 48 = \frac{40}{100} \cdot 120, \text{ כלומר: תמורת האחוז 40 מהגודל 120 היא 48.}$$

שאלות:

- (1) בכיתה 30 תלמידים. 60% מתוכם בנות.
 - א. כמה בנות בכיתה?
 - ב. כמה בנים בכיתה?
- (2) בכיתה 28 בנות המהוות 70% מכלל התלמידים בכיתה.
 - א. כמה תלמידים בכיתה?
 - ב. כמה בנים בכיתה?
- (3) מחיר בגדים הוא 300 ₪. בסוף העונה הוא נמכר ב-20% הנחה.
 - א. מהו מחירו בסוף העונה?
 - ב. מה גודל ההנחה?
- (4) מחיר ההשקה של בושם מסוים הוא 500 ₪. לאחר מכן מועלה מחירו ב-8%.
 - א. מה מחירו הסופי?
 - ב. מה גודל ההתייקרות?
- (5) מחיר ליטר דלק הוא 5 ₪ לליטר. בחנוכה מוזל מחירו ב-7%. בפסח מועלה מחירו ב-7%. מה מחירו בסוף השנה?

6) מוצר מסויים מתייקר בסוכות ב-12%. בפורים מוזל המוצר ב-12%. מחירו בסוף השנה הוא 394.24 ₪. מה מחירו בתחילת השנה?

7) ענה על השאלות הבאות:

- א. באולם קולנוע 200 צופים, מתוכם 176 בניס. מה אחוז הבניס בקהל?
 ב. בכיתה 30 תלמידים, מתוכם 18 בנות. מה אחוז הבנות בכיתה?
 ג. מחיר מוצר התייקר מ-80 ₪ ל-120 ₪. בכמה אחוזים התייקר המוצר?
 ד. מחיר מוצר הוזל מ-120 ₪ ל-80 ₪. בכמה אחוזים הוזל המוצר?
 ה. מחיר מוצר התייקר מ-150 ₪ ל-200 ₪. בכמה אחוזים התייקר המוצר?
 ו. מחיר מוצר מוזל הוזל מ-200 ₪ ל-150 ₪. בכמה אחוזים הוזל המוצר?

תשובות סופיות:

- 1) א. 18 בנות. ב. 12 בניס.
 2) א. 40 תלמידים. ב. 12 בניס.
 3) א. 240 ₪. ב. 60 ₪.
 4) א. 540 ₪. ב. 40 ₪.
 5) א. 4.9755 ₪.
 6) א. 400 ₪.
 7) א. 88%. ב. 60%. ג. 50%. ד. 33.33%. ה. 33.33%. ו. 25%.

חזרה על תבניות מספר:

סיכום כללי:

משתנה הוא סמל המתאר כמות או גודל כלשהם אשר אינם ידועים ועשויים להשתנות.

תבנית מספר היא ביטוי אלגברי אשר מכיל משתנה (או משתנים).

ניתן להציב במשתנים ערכים מספריים שונים ולקבל תוצאות שונות עבור תבנית המספר עצמה.

במתמטיקה, תפקידה של תבנית המספר הוא להביע גודל מסוים אשר לערכו יש משמעויות שונות. דוגמא לכך היא: קנייה של x פריטים, אשר כל אחד עולה 3 שקלים, יניבו תבנית מספר של $3 \cdot x$ אשר מייצגת את הסכום הכולל של הפריטים.

שאלות:

(1) חשב את ערכי הביטויים האלגבריים הבאים עבור ה- x הנתון:

א. $2x+5$ כאשר $x=3$ ב. x^2+3x כאשר $x=2$

ג. $-x^2+2x+3$ כאשר $x=5$ ד. $-x^2-9x+5$ כאשר $x=5$

ה. x^3+1 כאשר $x=-2$ ו. $4-x^3$ כאשר $x=-1$

ז. $(x+1)(2-x)$ כאשר $x=4$ ח. $x^2(3x-4)$ כאשר $x=3$

(2) חשב את ערכי הביטויים האלגבריים הבאים עבור ה- x הנתון:

א. $27x^5-2x^3+x$ כאשר $x=\frac{1}{3}$ ב. $\frac{1}{3}x^2+\frac{1}{2}x+6$ כאשר $x=-\frac{2}{3}$

(3) הצב את הערכים המספריים במקום הפרמטרים וחשב את ערך תבנית המספר:

א. $a^2+2ab+b^2$ עבור: $a=3, b=-5$

ב. $(x-3)^2+3x^2b$ עבור: $x=5, b=-1$

ג. $-x^3-2xy+y^4$ עבור: $x=-2, y=-1$

ד. $\frac{(a-2c)^4}{a}-a^2$ עבור: $a=2, c=-2$

ה. $\frac{4a^2-3b}{c}$ עבור: $a=-1, b=2, c=-4$

ו. $\sqrt{c-3a}$ עבור: $c=13, a=-1$ ועבור: $c=82, a=\frac{1}{3}$

ז. $\frac{p^3+2\sqrt{q+1}}{m}$ עבור: $p=-5, q=48, m=3$

תשובות סופיות:

- (1) א. 11 ב. 10 ג. -12 ד. -65 ה. -7 ו. 5
 ז. -10 ח. 45
- (2) א. $\frac{10}{27}$ ב. $5\frac{22}{27}$
- (3) א. 4 ב. -71 ג. 5 ד. 644 ה. $\frac{1}{2}$
 ו. הצבה ראשונה: 4, הצבה שניה: 9
 ז. -37

כינוס איברים:

סיכום כללי:

תבניות אלגבריות יכולות להכיל איברים רבים ולכן נרצה לכנס אותם על מנת לפשט את התבנית. כדי לכנס איברים ניקח את כל קבוצת האיברים מאותו הסוג ונחבר את המקדמים שלהם. דוגמא: $3x + 6x - 5x = (3 + 6 - 5)x = 4x$.
 איברים שונים נבדלים זה מזה בערך התבנית האלגברית שלהם.
 כך: $3x$ שונה מ- $4y$ ושונה מ- $2xy$. באותו האופן, האיברים x ו- x^2 הם שונים.

שאלות:

(1) כנס איברים דומים:

- | | |
|--|---|
| א. $5x + 7x - 4x$ | ב. $9x^2 - 2x^2 - 3x^2 - 2x^2$ |
| ג. $-10xy + 15xy + xy - 2yx$ | ד. $x^2y - 3yx^2 + x^2y$ |
| ה. $8a^2 + 10a - 5a^2 - 11a + a^2$ | ו. $2x^2 - 3m^2 - x^2 + 3m^2$ |
| ז. $3xy + y - 30y + 6yx - 7y$ | ח. $mn^2 + 4m^2n + 6n^2m - 10nm^2 + mn^2$ |
| ט. $-6 + x^3 + 4 - 3x^3 + 17x^3 - 17$ | י. $y^2 + x^2 - 5x^2 + 5y^2 + 4x^2 - 6y^2$ |
| יא. $7x^2 - 3x - 4x + 2$ | יב. $5xy + 2x - 3yx - x + 1$ |
| יג. $3 - x - x^2 + 4x + 5x^2 - 12$ | יד. $x + xy + y - 6yx - 6y - 6x$ |
| טו. $mn + n - 5m + 5nm - 14n + 3m$ | טז. $ab^2 + 6ba^2 - 6b + 16a^2b + 3b - 6b^2a$ |
| יז. $z^3 - 4z^2 + 7 - z^3 - 8 + 8z^2$ | יח. $4x^2z + 6xz^2 - 6 - xz^2 + 12 + 10zx^2$ |
| יט. $2 - x^3 - 3 - 4x^2 + 2x + x^3 + x^2 - 2$ | כ. $x^3 - 3x - 4x^2 + 2x + x^3 + x^2 - 2x^3$ |
| כא. $2a^2b + 3x^2y + 5a^2b + 10x^2y$ | כב. $12x^2y^3 + 13a^2 - 20x^2y^3 + 2a^2$ |
| כג. $2y^2 - 4x^3y^2 - 10y^2 - x^3y^2$ | כד. $-2x^3y + 5x^2 - 4yx^3 - 6x^2$ |
| כה. $2a^2b + 2b + 3a^2 + 5b$ | כו. $5a^2b - 8ab^2 + 20a^2b - 14ab^2$ |
| כז. $-12x^2 + 2y^2 + 3x^2y + 14xy^2 - 5xy^2 - 6y^2 + 2xy + 11x^2 + x^2y - 9xy$ | |
| כח. $21x^3y^3 + x^2y^2 - 3xy^3 + x^3y - 15x^2y^2 - 7x^3y + 12x^3y^3 - 4xy^3 + 4xy^3 - 6x^3y$ | |

תשובות סופיות:

- (1) א. $8x$ ב. $2x^2$ ג. $4xy$
- ד. $-x^2y$ ה. $4a^2 - a$ ו. x^2
- ז. $9xy - 36y$ ח. $8mn^2 - 6nm^2$ ט. $15x^3 - 19$
- י. $-13n - 2m + 6mn$ יא. $7x^2 - 7x + 2$ יב. $2xy + x + 1$
- יג. $4x^2 + 3x - 9$ יד. $-5x - 5y - 5xy$ יו. $-5ab^2 + 22a^2b - 3b$
- יח. $14x^2z + 5xz^2 + 6$ יז. $4z^2 - 1$ יט. $-3x^2 + 2x - 3$
- כא. $7a^2b + 13x^2y$ כב. $-8x^2y^3 + 15a^2$ כג. $-8y^2 - 5x^3y^2$
- כד. $-6x^3y - x^2$ כה. $2a^2b + 3a^2 + 7b$ כו. $25a^2b - 22ab^2$
- כז. $-x^2 - 4y^2 + 4x^2y + 9xy^2 - 7xy$
- כח. $33x^3y^3 - 14x^2y^2 - 3xy^3 - 12x^3y$

פישוט ביטויים ע"י פתיחת סוגריים:

סיכום כללי:

בעת ביצוע כפל בין שני איברים יש לכפול את המקדמים בנפרד ואת האותיות (משתנים) בנפרד.

כלל הפילוג:

$$\bullet a(b+c) = ab+ac$$

$$\bullet (a+b)(c+d) = ac+ad+bc+bd$$

שאלות:

(1) פשט את הביטויים הבאים:

א. $2x \cdot 3x$	ב. $-4x \cdot (-7x)$	ג. $-2x \cdot (-4x) \cdot (-3)$
ד. $8m^2 \cdot 4m^3$	ה. $3a^3 \cdot (-2a^2)$	ו. $-b \cdot 4b^2 \cdot \frac{b^2}{2}$
ז. $a \cdot 3b$	ח. $4a^2 \cdot 7b^2$	ט. $ab \cdot (-2a^2b)$

(2) פשט את הביטויים הבאים ע"י פתיחת סוגריים:

א. $2(3x-4)$	ב. $2(-3x^2+5x-1)$
ג. $(7x-2)4$	ד. $(1-2x)(-2)$
ה. $a(3a-1)$	ו. $b(b^2-3b+4)$
ז. $2x(5x+3)$	ח. $5x(x^2+2x-3)$
ט. $3t^2(4t-t^2+6)$	י. $\frac{5}{2}(4d^4-3d)d$

3 פשט את הביטויים הבאים :

א. $5x + (3x - 2) + (-4 - 2x)$ ב. $7x + (-4x - 5) + 3x + (-1 + 7x)$

ג. $8 - (2x - 5) - (4x + 2)$ ד. $-6x - (-3x - 1) - (-7 - 4x) + 1$

ה. $(3 - 2x^2 + 4)2 + 3(x - x^2) - 6(7 - 5x) + 4x^2$

ו. $3y^2 - (y + 1 - 2y^2) + 6(5y - 6) - (-y - 4)3 + 5(y^2 + 1) - 7$

4 פשט את הביטויים הבאים :

א. $(x - 1)(x + 2)$ ב. $(x + 3)(x - 7)$

ג. $(3 - x)(x + 4)$ ד. $(3x + 4)(5x + 1)$

ה. $3(4x + 1)(2x - 3)$ ו. $-2(3x - 1)(5 - 2x)$

5 פשט את ערכי הביטויים הבאים :

א. $(x - 1)(x + 3) + 2(3 - x)$

ב. $(a + 4)(a - 2) - (a + 5)(a - 3)$

ג. $(2m - 3)(4m + 3) + 5(2m^2 - 6)$

ד. $-x^2y^2(x^3y + x^2) + 2xy(2x^3y - x^4y^2)$

תשובות סופיות:

- (1) א. $6x^2$ ב. $28x^2$ ג. $-24x^2$ ד. $32m^5$ ה. $-6a^5$ ו. $-2b^5$
 ז. $3ab$ ח. $28a^2b^2$ ט. $-2a^3b^2$
- (2) א. $6x-8$ ב. $-6x^2+10x-2$ ג. $28x-8$ ד. $-2+4x$
 ה. $3a^2-a$ ו. b^3-3b^2+4b ז. $10x^2+6x$ ח. $5x^3+10x^2-15x$
 ט. $12t^3-3t^4+18t^2$ י. $10d^5-7.5d^2$
- (3) א. $6x-6$ ב. $13x-6$ ג. $-6x+11$ ד. $x+9$ ה. $-3x^2+33x-28$
 ו. $10y^2+32y-27$
- (4) א. x^2+x-2 ב. $x^2-4x-21$ ג. $-x^2-x+12$
- ד. $15x^2+23x+4$ ה. $24x^2-30x-9$ ו. $12x^2-34x+10$
- (5) א. x^2+3 ב. 7 ג. $18m^2-6m-39$ ד. $-3x^5y^3+3x^4y^2$

פישוט ביטויים באמצעות נוסחאות הכפל המקוצר:

סיכום כללי:

- נוסחת ריבוע של סכום/הפרש: $(a \pm b)^2 = a^2 \pm 2ab + b^2$.
- נוסחה להפרש ריבועים: $(a+b)(a-b) = a^2 - b^2$.

שאלות:

(1) פשט את הביטויים הבאים:

א. $(x+5)^2$	ב. $(x+2)^2$	ג. $(4x+5)^2$
ד. $(6x+2)^2$	ה. $(7x+y)^2$	ו. $(5x+2y)^2$
ז. $(x^2+7)^2$	ח. $(x^2+y^2)^2$	ט. $(x^3+2y^2x)^2$

(2) פשט את הביטויים הבאים:

א. $(x-6)^2$	ב. $(x-2)^2$	ג. $(5-x)^2$
ד. $(6x-1)^2$	ה. $\left(3x-\frac{1}{2}\right)^2$	ו. $\left(\frac{1}{3}x-5\right)^2$
ז. $(3m-2n)^2$	ח. $\left(x^2-\frac{3}{5}y\right)^2$	ט. $(x^2y^2-7)^2$

(3) פשט את הביטויים הבאים:

א. $(x-5)(x+5)$	ב. $(3+x)(x-3)$
ג. $(3x-1)(3x+1)$	ד. $(5-7x)(7x+5)$
ה. $\left(\frac{1}{2}x+6\right)\left(\frac{1}{2}x-6\right)$	ו. $\left(5y-\frac{1}{4}x\right)\left(\frac{1}{4}x+5y\right)$
ז. $(x^2+y)(x^2-y)$	ח. $(3a^2b^3-4)(3a^2b^3+4)$

4 פשט את הביטויים הבאים :

א. $(x+1)(x+2)-3x$	ב. $(x-5)(5x-1)+2(4+x)$
ג. $x(2x-1)(2x+1)-4x^2(x+1)$	ד. $-(y+3x)(y-3x)+(y-3x)^2$
ה. $x(x+3)-(6+x)(6x+2)-(x+2)^2$	
ו. $-5(x+7)(x-7)+3(2x+5)(5-x)+(x+1)^2$	

תשובות סופיות:

א. $x^2+10x+25$	ב. x^2+4x+4	ג. $16x^2+40x+25$	1
ד. $36x^2+24x+4$	ה. $49x^2+14xy+y^2$	ו. $25x^2+20xy+4y^2$	
ז. $x^4+14x+49$	ח. $x^4+2x^2y^2+y^4$	ט. $x^6+4x^4y^2+4y^4x^2$	
א. $x^2-12x+36$	ב. x^2-4x+4	ג. $25-10x+x^2$	2
ד. $36x^2-12x+1$	ה. $9x^2-3x+\frac{1}{4}$	ו. $\frac{1}{9}x^2-3\frac{1}{3}x+25$	
ז. $9m^2-12mn+4n^2$	ח. $x^4-\frac{6}{5}x^2y+\frac{9}{25}y^2$	ט. $x^4y^4-14x^2y^2+49$	
א. x^2-25	ב. x^2-9	ג. $9x^2-1$	3
ה. $\frac{1}{4}x^2-36$	ו. $25y^2-\frac{1}{16}x^2$	ז. x^4-y^2	
א. x^2+2	ב. $5x^2-24x+13$	ג. $-4x^2-x$	4
ד. $18x^2-6xy$	ה. $-6x^2-39x-16$	ו. $-10x^2+17x+321$	

פירוק לגורמים של ביטויים אלגבריים:

סיכום כללי:

פירוק לגורמים הוא פעולה הפוכה לפתיחת סוגריים – נרצה להוציא את הגורמים המשותפים לאיברים מחוץ לסוגריים.

- פירוק לגורמים ע"י הוצאת איבר אחד משותף:

○ הוצאת מספר משותף: $2x - 8 = 2(x - 4)$

○ הוצאת אות משותפת: $x^2 - 12x = x(x - 12)$

○ הוצאת מספר ואות יחד: $3x^2 - 21x = 3x(x - 7)$

- פירוק לגורמים ע"י נוסחאות הכפל המקוצר:

○ נוסחת הבינום של ניוטון: $a^2 \pm 2ab + b^2 = (a \pm b)^2$

○ נוסחה להפרש ריבועים: $a^2 - b^2 = (a + b)(a - b)$

שאלות:

- (1) פשט את הביטויים הבאים ע"י הוצאת גורם משותף:

א. $3x - 12$ ב. $6y - 4$

ג. $20 - 8a$ ד. $4a^3 + 8b$

ה. $75m^2 + 25m + 15$ ו. $40a^2 - 8b^2 + 64c^2$

- (2) פשט את הביטויים הבאים ע"י הוצאת גורם משותף:

א. $y^2 + 5y$ ב. $3x - 11x^3$

ג. $6y^2 + 5y^3 + 4y$ ד. $\frac{1}{2}a^7 - \frac{1}{4}a^5 + a^3$

3 פשט את הביטויים הבאים ע"י הוצאת גורם משותף :

א. $2x^2 - 8x$	ב. $3t^2 + 12t$
ג. $5n^3 - 20n^2 + 50n$	ד. $8y^2 + 6y^3 - 2y^4$
ה. $4x^2y^2 + 16x^2y - 20xy^2$	ו. $27mn - 3n^2m + 9n^3m$

4 פשט את הביטויים הבאים ע"י שימוש בנוסחאות הכפל המקוצר :

א. $x^2 + 10x + 25$	ב. $x^2 + 12x + 36$
ג. $y^2 - 18y + 81$	ד. $y^2 - 22y + 121$
ה. $4x^2 + 4x + 1$	ו. $16y^2 - 8y + 1$
ז. $9x^2 - 24x + 16$	ח. $25x^2 + 70x + 49$

5 פשט את הביטויים הבאים ע"י שימוש בנוסחאות הכפל המקוצר :

א. $r^2 - 25$	ב. $x^2 - 81$
ג. $25y^2 - 49$	ד. $121x^2 - 1$
ה. $x^2y^2 - 4$	ו. $9y^4 - 169x^4$

6 פשט את הביטויים הבאים ע"י הוצאת גורם משותף ונוסחאות הכפל המקוצר :

א. $y - y^3$	ב. $x^3 - 10x^2 + 25x$
ג. $m^4 - 1$	ד. $196x^4 - 140x^3 + 25x^2$

תשובות סופיות:

- (1) א. $3(x-4)$ ב. $2(3y-2)$ ג. $4(5-2a)$
- ד. $4(a^3+2b)$ ה. $5(15m^2+5m+3)$ ו. $8(5a^2-b^2+8c^2)$
- (2) א. $y(y+5)$ ב. $x(3-11x^2)$ ג. $y(6y+5y^2+4)$
- ד. $a^3\left(\frac{1}{2}a^4-\frac{1}{4}a^2+1\right)$
- (3) א. $2x(x-4)$ ב. $3t(t+4)$ ג. $5n(n^2-4n+10)$
- ד. $2y^2(4+3y-y^2)$ ה. $4xy(xy+4x-5y)$ ו. $3mn(9-n-3n^2)$
- (4) א. $(x+5)^2$ ב. $(x+6)^2$ ג. $(y-9)^2$ ד. $(y-11)^2$
- ה. $(2x+1)^2$ ו. $(4y-1)^2$ ז. $(3x-4)^2$ ח. $(5x+7)^2$
- (5) א. $(r+5)(r-5)$ ב. $(x+9)(x-9)$ ג. $(5y+7)(5y-7)$
- ד. $(11x+1)(11x-1)$ ה. $(xy+2)(xy-2)$ ו. $(3y^2+13x^2)(3y^2-13x^2)$
- (6) א. $y(1+y)(1-y)$ ב. $x(x-5)^2$ ג. $(m^2+1)(m+1)(m-1)$
- ד. $x^2(14x-5)^2$

פירוק הטרינום:

סיכום כללי:

טרינום משמעו תלת איבר מהצורה: $ax^2 + bx + c$ כאשר a, b ו- c הם מספרים כלשהם.

שיטת הטרינום מאפשרת לפרק את תלת האיבר ל-4 איברים ע"י פיצול האיבר bx לשני איברים באופן כזה שמאפשר להוציא גורם משותף.

הכלל הוא למצוא שני מספרים, m_1 ו- m_2 , שמקיימים: $m_1 \cdot m_2 = ac$ ו- $m_1 + m_2 = b$.
לאחר מכן ניתן לפרק את הטרינום: $ax^2 + bx + c = ax^2 + m_1x + m_2x + c$.
השלב האחרון הוא הוצאת גורם משותף מכל זוג: $ax^2 + \underbrace{m_1x + m_2x} + c$.

הערה:

במקרה שנוסחת השורשים ידועה, ניתן להיעזר בה כדי למצוא את המספרים m_1 ו- m_2 באופן

הבא: $m_1 = \frac{-b + \sqrt{b^2 - 4ac}}{2a}$, $m_2 = \frac{-b - \sqrt{b^2 - 4ac}}{2a}$ ולאחר מכן ניתן לכתוב את הטרינום

כמכפלה: $ax^2 + bx + c = a(x - m_1)(x - m_2)$. אם קיים פתרון (שורש) אחד $m_1 = m_2 = \frac{-b}{2a}$

אז נכתוב: $ax^2 + bx + c = a(x - m_1)^2$ ואם לא קיימים פתרונות אז לא קיים פירוק כלל.

שאלות:

1) פרק את הביטויים הבאים לפי פירוק טרינום:

א. $x^2 + 5x + 4$	ב. $x^2 - 8x + 15$	ג. $x^2 - 33x + 62$
ד. $2x^2 + 7x - 15$	ה. $3x^2 - 11x + 6$	ו. $6x^2 + 5x + 1$
ז. $2x^2 + x - 6$	ח. $x^2 - 18x + 81$	ט. $x^2 + 2x + 8$

2) פרק את הביטויים הבאים ע"י שימוש בנוסחת השורשים.
הערה: במידה ולא למדת על נוסחת השורשים התעלם משאלה זו.

א. $6x^2 + 5x + 1$	ב. $x^2 + 5x + 4$
ג. $4x^2 + 20x + 25$	ד. $3x^2 - x + 20$

תשובות סופיות:

$$(1) \quad \text{א. } (x+1)(x+4) \quad \text{ב. } (x-3)(x-5) \quad \text{ג. } (x-2)(x-31)$$

$$\text{ד. } (2x-3)(x+5) \quad \text{ה. } (3x-2)(x-3) \quad \text{ו. } (3x+1)(2x+1)$$

$$\text{ז. } (x+2)(2x-3) \quad \text{ח. } (x-9)^2 \quad \text{ט. אין פירוק.}$$

$$(2) \quad \text{א. } 6\left(x+\frac{1}{3}\right)\left(x+\frac{1}{2}\right) \quad \text{ב. } (x+1)(x+4) \quad \text{ג. } (2x+5)^2 \quad \text{ד. אין פירוק.}$$

שברים אלגבריים:

סיכום כללי:

הגדרה:

שבר אלגברי מורכב משתי תבניות, אשר אחת מחלקת את השנייה.

$$\text{דוגמא לשברים אלגבריים: } \frac{x+1}{x+2}, \frac{3x}{x^2+1}, \frac{4}{x-x^3}$$

במקרה בו המכנה הוא מספר, לא מדובר בשבר אלגברי מכיוון שניתן לכתוב את

$$\text{הביטוי ללא צורך בחילוק בין ביטויים שונים כגון: } \frac{3x+5}{4} = \frac{3}{4}x + \frac{5}{4}$$

תחום הגדרה של שבר:

היות ושבר אלגברי הוא תבנית אשר יכולה לקבל ערכים שונים בעת הצבות שונות, חשוב להגביל את המספרים שניתן להציב באופן כזה שלא תתקבל חלוקה באפס.

$$\text{דוגמא: השבר } \frac{1}{x+4} \text{ לא מוגדר כאשר } x = -4 \text{ מכיוון שמתקבל: } \frac{1}{0}$$

במקרים אלו נדרוש **תנאי** על המשתנה אשר יכתב באופן הבא: $x \neq -4$ ומשמעו היא ש- x יכול לקבל על ערך מספרי אפשרי למעט -4, מכיוון שבמקרה זה השבר לא מוגדר.

כלל צמצום שברים אלגבריים:

ניתן לצמצם שברים אלגבריים ע"י הבאת המונה והמכנה למכפלה של ביטויים. במידה וקיימות פעולות החיבור והחיסור בין איברים שונים לא ניתן לבצע צמצום של איברים דומים בין המונה והמכנה. להלן מספר דוגמאות הנוגעות לצמצומים:

$$\bullet \text{ צמצום ע"י הוצאת גורם משותף: } \frac{2x+8}{x+4} = \frac{2(x+4)}{x+4} = \frac{2 \cdot 1}{1} = 2$$

$$\bullet \text{ צמצום ע"י נוסחת כפל מקוצר: } \frac{3x-15}{x^2-10x+25} = \frac{3(x-5)}{(x-5)^2} = \frac{3 \cdot 1}{x-5} = \frac{3}{x-5}$$

$$\bullet \text{ צמצום ע"י פירוק טרינום: } \frac{x^2-2x-3}{x^2-3x-4} = \frac{(x+1)(x-3)}{(x+1)(x-4)} = \frac{x-3}{x-4}$$

שאלות:

(1) מצא את תחום ההגדרה של השברים האלגבריים הבאים:

$\frac{5}{x-6}$.ב.	$\frac{x+4}{x+3}$.א.
$\frac{x^2+1}{x^2-4x}$.ד.	$\frac{x+7}{2x-8}$.ג.
$\frac{x^2}{x^2-4}$.ו.	$\frac{3}{x^2+2x+1}$.ה.
$\frac{8x-2}{3x^3-15x^2+12x}$.ח.	$\frac{6}{y^4-y^2}$.ז.

(2) צמצם את השברים הבאים (במידה ולא ניתן צמצם הסבר מדוע):

$\frac{a-x}{a}$.ב.	$\frac{ax}{a}$.א.
$\frac{x+1}{y+1}$.ד.	$\frac{a-ax}{a}$.ג.
$\frac{6x}{6y}$.ו.	$\frac{x}{x+y}$.ה.
$\frac{x^2+y^2}{x^2y^2}$.ח.	$\frac{x^2y}{xy^2}$.ז.
$\frac{3x^2}{x^2+3}$.י.	$\frac{4x^2y}{xy}$.ט.

(3) צמצם את השברים הבאים ע"י הוצאת גורם משותף וכתוב את תחום הגדרתם:

$\frac{m^2+4m}{4m+16}$.ב.	$\frac{3x+12}{x+4}$.א.
$\frac{x^2-5x}{15-3x}$.ד.	$\frac{2a-12}{a^2-6a}$.ג.
$\frac{4x^3-2x^2}{6x-3}$.ו.	$\frac{3-18y^2}{6y^2-1}$.ה.
$\frac{3z^3-12z^2+4z}{z^2+5z}$.ח.	$\frac{3y}{y^3-3y^2}$.ז.

4) צמצם את השברים הבאים ע"י פירוק לגורמים וכתוב את תחום הגדרתם:

$\frac{8n - n^2}{n^2 - 16n + 64} \quad \text{ב.}$	$\frac{x^2 + 10x + 25}{2x + 10} \quad \text{א.}$
$\frac{4m^2 + 20m + 25}{4m^2 + 10m} \quad \text{ד.}$	$\frac{z^3 - 4z^2}{2z^2 - 16z + 32} \quad \text{ג.}$
$\frac{a^3 + 4a^2b + 4ab^2}{3ab + 6b^2} \quad \text{ו.}$	$\frac{18y^2 - 24y + 8}{2y - 3y^2} \quad \text{ה.}$

5) צמצם את השברים הבאים ע"י טרינום ריבועי וכתוב את תחום הגדרתם:

$\frac{m^2 - 12m + 32}{m - 4} \quad \text{ב.}$	$\frac{x + 2}{x^2 - 3x - 10} \quad \text{א.}$
$\frac{3z^2 + 26z + 16}{3z + 2} \quad \text{ד.}$	$\frac{4y - 10}{2y^2 + y - 15} \quad \text{ג.}$
$\frac{9n^2 - 12n}{4 + 5n - 6n^2} \quad \text{ו.}$	$\frac{x^2 + 5x - 36}{x^3 + 9x^2} \quad \text{ה.}$
$\frac{x^2 - 14x + 49}{x^2 + x - 56} \quad \text{ח.}$	$\frac{x^2 + 4x + 4}{x^2 + 5x + 6} \quad \text{ז.}$
$\frac{m^3n - m^2n^2 - m^2 + mn}{2m^2n^3 + mn^2 - 3n} \quad \text{י.}$	$\frac{3a^2b - 10ab^2 + 3b^3}{-3a^3b + 11a^2b^2 - 6ab^3} \quad \text{ט.}$

תשובות סופיות:

- (1) א. $x \neq -3$ ב. $x \neq 6$ ג. $x \neq 4$ ד. $x \neq 0, x \neq 4$
 ה. $x \neq -1$ ו. $x \neq -2, x \neq 2$ ז. $y \neq 0, y \neq -1, y \neq 1$
 ח. $x \neq 0, x \neq 1, x \neq 4$
- (2) א. x ב. לא ניתן לצמצם. ג. $1-x$
 ד. לא ניתן לצמצם. ה. לא ניתן לצמצם. ו. $\frac{x}{y}$ ז. $\frac{x}{y}$
 ח. לא ניתן לצמצם. ט. $4x$ י. לא ניתן לצמצם.
- (3) א. $x \neq -4, 3$ ב. $\frac{m}{4}, m \neq -4$ ג. $\frac{2}{a}, a \neq 0, 6$
 ד. $-\frac{x}{3}, x \neq 5$ ה. $-3, y \neq \pm \frac{1}{\sqrt{6}}$ ו. $\frac{2x^2}{3}, x \neq \frac{1}{2}$
 ז. $\frac{3}{y(y-3)}, y \neq 0, 3$ ח. $\frac{3z^2-12z+4}{z+5}, z \neq 0, -5$
- (4) א. $\frac{x+5}{2}, x \neq -5$ ב. $\frac{n}{8-n}, n \neq 8$ ג. $\frac{z^2}{2(z-4)}, z \neq 4$
 ד. $\frac{2m+5}{2m}, m \neq 0, -\frac{5}{2}$ ה. $\frac{2(2-3y)}{y}, y \neq 0, \frac{2}{3}$ ו. $\frac{a(a+2b)}{3b}, b \neq 0, a \neq -2b$
- (5) א. $\frac{1}{x-5}, x \neq 5, -2$ ב. $m-8, m \neq 4$ ג. $\frac{2}{y+3}, x \neq -3, \frac{5}{2}$
 ד. $z+8, z \neq -\frac{2}{3}$ ה. $\frac{x-4}{x^2}, x \neq 0, -9$ ו. $\frac{-3n}{2n+1}, n \neq -\frac{1}{2}, \frac{4}{3}$
 ז. $\frac{x+2}{x+3}, x \neq -2, -3$ ח. $\frac{x-7}{x+8}, x \neq 7, -8$
 ט. $\frac{3a-b}{a(2b-3a)}, a \neq 0, b \neq 0, a \neq 3b, 2b \neq 3a$ י. $\frac{m(m-n)}{n(2mn+3)}, mn \neq 1, -\frac{3}{2}, n \neq 0$

כפל וחילוק של שברים אלגבריים:

סיכום כללי:

כפל שברים יתבצע ע"י הכפלת כל מונה בנפרד והכפלת כל מכנה בנפרד.
חילוק שברים יתבצע ע"י לקיחת ההופכי של שבר המחלק וביצוע פעולת כפל.

$$\bullet \text{ דוגמא לכפל שברים: } \frac{x+1}{x^2} \cdot \frac{x}{3x+3} = \frac{x+1}{x^2} \cdot \frac{x}{3(x+1)} = \frac{\cancel{x}(x+1)}{3x^{\cancel{2}}(x+1)} = \frac{1}{3x}$$

$$\bullet \text{ דוגמא לחילוק שברים: } \frac{4x}{y} : \frac{12}{y^2+y} = \frac{4x}{y} \cdot \frac{y^2+y}{12} = \frac{\cancel{4}x}{\cancel{y}} \cdot \frac{\cancel{y}(y+1)}{\cancel{12}_3} = \frac{x(y+1)}{3}$$

שאלות:

(1) פשט את הביטויים הבאים:

א. $\frac{x}{3} \cdot \frac{x}{8}$	ב. $\frac{x}{3} \cdot \frac{9}{x^2}$
ג. $7y \cdot \frac{5}{y^2}$	ד. $6x^2 \cdot \frac{3}{40x}$
ה. $(x^2+3x) \cdot \frac{2}{3x+9}$	ו. $(a^2-25) \cdot \frac{20}{5a+25}$
ז. $\frac{w^2-9}{w} \cdot \frac{w^2}{2w+6}$	ח. $\frac{y+4}{y^2+16} \cdot \frac{y^2-16}{2y+8}$
ט. $\frac{z^2+30z+225}{6z+90} \cdot \frac{12}{2z-10}$	י. $\frac{5n^2}{n^2-121} \cdot \frac{2n^2+44n+242}{n+2} \cdot \frac{n^2+4n+4}{n}$

(2) פשט את הביטויים הבאים:

א. $\frac{x}{8} : \frac{x}{6}$	ב. $\frac{y}{25} : \frac{5}{y}$
ג. $a^2 : \frac{1}{6a}$	ד. $\frac{5}{6a} : a^2$
ה. $(d^2-3d) : \frac{5d-15}{5d}$	ו. $\frac{t}{t+4} : \frac{3t}{t+4}$
ז. $\frac{y^2+8y+16}{8y^2} : \frac{y^2-16}{7y^2}$	ח. $\frac{a^2-64}{a^2-36} : \frac{a+8}{a+6}$

תשובות סופיות:

(1) א. $\frac{x^2}{24}$ ב. $\frac{3}{x}$ ג. $\frac{35}{y}$ ד. $\frac{9x}{20}$ ה. $\frac{2x}{3}$

ו. $4(a-5)$ ז. $\frac{w(w-3)}{2}$ ח. $\frac{y^2-16}{2y^2+32}$ ט. $\frac{z+15}{z-5}$ י. $\frac{10n(n+11)(n+2)}{n-11}$

(2) א. $\frac{3}{4}$ ב. $\frac{y^2}{125}$ ג. $6a^3$ ד. $\frac{5}{6a^3}$ ה. d^2 ו. $\frac{1}{3}$

ז. $\frac{7(y+4)}{8(y-4)}$ ח. $\frac{a-8}{a-6}$

חיבור וחסור של שברים אלגברים:

סיכום כללי:

ביצוע פעולת החיבור והחסור תתבצע באופן זהה לשברים מספריים. נרצה להרחיב את השברים כך שהמכנה של שניהם יהיה זהה, ולאחר מכן נחבר את המונים. כדי להרחיב את השברים נעזר בפעולת מציאת מכנה משותף. לשם כך נעזר בפירוקים השונים כדי להביא את הביטויים שבכל מכנה לצורתם המופשטת. דוגמא לחיבור שברים בעלי אותו מכנה:

$$\frac{1}{x} + \frac{x+1}{x} = \frac{1+(x+1)}{x} = \frac{x+2}{x}$$

דוגמא לחיבור מספר לשבר אלגברי:

$$2 + \frac{3}{x+2} = \frac{2(x+2)}{x+2} + \frac{3}{x+2} = \frac{2(x+2)+3}{x+2} = \frac{2x+7}{x+2}$$

דוגמא לחיבור שברים עם מכנים שונים (ע"י פעולת מכנה משותף):

$$\frac{1}{x+1} + \frac{1}{x} = \frac{x}{x(x+1)} + \frac{x+1}{x(x+1)} = \frac{x+x+1}{x(x+1)} = \frac{2x+1}{x(x+1)}$$

דוגמא לחיבור שברים ע"י שימוש בפירוק לגורמים (כדי למצוא מכנה משותף מינימלי):

$$\frac{1}{x^2-3x} + \frac{3}{x-3} = \frac{1}{x^2-3x} + \frac{3x}{x^2-3x} = \frac{1+3x}{x^2-3x}$$

דוגמא לחיבור שברים ע"י נוסחאות הכפל המקוצר (כדי למצוא מכנה משותף מינימלי):

$$\frac{3}{x^2-6x+9} - \frac{2}{x^2-9} = \frac{3}{(x-3)^2} - \frac{2}{(x-3)(x+3)} = \frac{3(x+3)-2(x-3)}{(x-3)^2(x+3)} = \frac{x+15}{(x-3)^2(x+3)}$$

שאלות:

(1) פשט את הביטויים הבאים:

א. $\frac{a}{6} + \frac{a-5}{6}$

ג. $\frac{x-2}{x+1} + \frac{3+4x}{x+1}$

ב. $\frac{5}{x} + \frac{4x+3}{x}$

ד. $\frac{7z}{2z-3} - \frac{4z}{2z-3} - \frac{z+3}{2z-3}$

(2) פשט את הביטויים הבאים:

א. $\frac{1}{ab} - \frac{5}{bc}$

ג. $\frac{c}{ab} - \frac{ad}{bc} + \frac{2b}{cd}$

ה. $\frac{1}{(y+1)^2} + \frac{3}{y+1}$

ב. $\frac{1}{xy} + \frac{5}{yz} + \frac{4}{xz}$

ד. $-\frac{5}{x} + \frac{x+1}{xy^2}$

ו. $\frac{3}{z(z-3)} - \frac{2}{z(z-2)}$

(3) פשט את הביטויים הבאים:

א. $1 - \frac{2}{x}$

ג. $2 + \frac{2}{x+1}$

ה. $\frac{a+1}{a^2} - \frac{3-a}{4a} - 3$

ב. $1 + \frac{3}{y^2}$

ד. $3 - \frac{1}{x} + \frac{1}{3x}$

ו. $\frac{x}{9yz} + \frac{z}{3y^2x} + \frac{3-y}{12xz} - 3\frac{1}{2}$

(4) פשט את הביטויים הבאים:

א. $\frac{3}{x+1} + \frac{1}{x}$

ג. $\frac{a+1}{a+2} + \frac{3}{a}$

ב. $\frac{4}{y+2} - \frac{3}{y}$

ד. $\frac{1}{z+3} + \frac{2}{3z} - \frac{3}{z}$

5 פשט את הביטויים הבאים :

א. $\frac{24}{a^2-9} + \frac{4}{a+3}$

ג. $\frac{y}{(y-2)^2} + \frac{3y}{4-y^2}$

ה. $\frac{x-1}{x^2+3x-40} + \frac{2}{-x^2+8x-15}$

ז. $\frac{x}{x-3} + \frac{9-x}{x^2-8x+15}$

ב. $\frac{3}{x^2-16} + \frac{2}{(x+4)^2}$

ד. $\frac{3z}{z^2+4z+3} - \frac{z+0.5}{z^2+2z+1}$

ו. $\frac{2a+3}{2a^2+15a+7} + \frac{a+3}{a^2+14a+49}$

ח. $\frac{1}{a-b} + \frac{2}{a+2b} - \frac{3b}{a^2+ab-2b^2}$

6 פשט את הביטויים הבאים :

א. $\frac{4}{x} \cdot \frac{x^2}{8} + \frac{9}{x+1} \cdot \frac{x+1}{18}$

ג. $\frac{7}{y^2} : \frac{6}{y^3} - \frac{y-4}{63} \cdot \frac{3y-4}{y^2-8y+16}$

ה. $\left(\frac{2x+1}{20x^2-28x-3} - \frac{3x+1}{30x^2-17x-2} \right) : \frac{18x+3}{6x^2-13x+6}$

ב. $\left(\frac{2}{x} + 1 \right) \cdot \frac{x^2}{7x+14}$

ד. $\left(3x - \frac{2}{x^2} + \frac{1}{x} \right) : \frac{6x^3+2x-4}{x^2}$

תשובות סופיות:

$$1. \text{ד} \quad \frac{5x+1}{x+1} \text{ג} \quad \frac{4x+8}{x} \text{ב} \quad \frac{2a-5}{6} \text{א} \quad (1)$$

$$\frac{c^2d - a^2d^2 + 2ab^2}{abcd} \text{ג} \quad \frac{z+5x+4y}{xyz} \text{ב} \quad \frac{c-5a}{abc} \text{א} \quad (2)$$

$$\frac{1}{(z-2)(z-3)} \text{ו} \quad \frac{3y+4}{(y+1)^2} \text{ה} \quad \frac{-5y^2+x+1}{xy^2} \text{ד}$$

$$\frac{2x+4}{x+1} \text{ג} \quad \frac{y^2+3}{y^2} \text{ב} \quad \frac{x-2}{x} \text{א} \quad (3)$$

$$\frac{4x^2y+12z^2+9y^2-3y^3-126xy^2z}{36xy^2z} \text{ו} \quad \frac{-11a^2+a+4}{4a^2} \text{ה} \quad \frac{9x-2}{3x} \text{ד}$$

$$-\frac{4z+21}{3z(z+3)} \text{ד} \quad \frac{a^2+4a+6}{a(a+2)} \text{ג} \quad \frac{y-6}{y(y+2)} \text{ב} \quad \frac{4x+1}{x(x+1)} \text{א} \quad (4)$$

$$\frac{2y(4-y)}{(y-2)^2(y+2)} \text{ג} \quad \frac{5x+4}{(x-4)(x+4)^2} \text{ב} \quad \frac{4}{a-3} \text{א} \quad (5)$$

$$\frac{4(a^2+6a+6)}{(a+7)^2(2a+1)} \text{ו} \quad \frac{x^2-6x-13}{(x+8)(x-5)(x-3)} \text{ה} \quad \frac{(4z+3)(z-1)}{2(z+1)^2(z+3)} \text{ד}$$

$$\frac{3}{a+2b} \text{ח} \quad \frac{x-3}{x-5} \text{ז}$$

$$\frac{1}{2} \text{ד} \quad \frac{147y^2-594y+8}{126(y-4)} \text{ג} \quad \frac{x}{7} \text{ב} \quad \frac{x+1}{2} \text{א} \quad (6)$$

$$\frac{1}{3(10x+1)} \text{ה}$$

שברים כפולים:

סיכום כללי:

שבר כפול מורכב באופן הבא: $\frac{\frac{a}{b}}{\frac{c}{d}}$ כאשר מתקיים: $\frac{a}{b} = \frac{a}{b} \cdot \frac{c}{d} = \frac{ad}{bc}$

נובע מכאן כי ניתן לצמצם ביטויים בין שני המכנים או שני המונים בלבד.

שאלות:

(1) פשט את הביטויים הבאים:

$\frac{5}{30t^2}$.ג	$\frac{y+1}{2y+2}$.ב	$\frac{4x}{12}$.א
$\frac{4x}{x+1}$.ו	$\frac{3y^3 - y^2}{25}$.ה	$\frac{t^2 - 81}{9t^2}$.ד
$\frac{1}{x} - 4 + \frac{x}{x+1}$.ט	$\frac{t^2 - t - 20}{16t + 8}$.ח	$\frac{8c^2}{3c^3 - 9c^2 - 12c}$.ז
$\frac{1}{x^2 + 2x + 1}$	$\frac{25 - t^2}{2t + 1}$	$\frac{40}{15c + 15}$

תשובות סופיות:

$\frac{(3y-1)(3-y)}{25}$.ה	$\frac{t-9}{54t^2}$.ד	$\frac{1}{6t^3}$.ג	2.5 .ב	$\frac{x^2}{3}$.א (1)
$\frac{5}{x}$.ט	$\frac{t+4}{-8(t+5)}$.ח	$\frac{c}{c-4}$.ז	$\frac{x(x+1)}{2}$.ו	

קורס מכינה במתמטיקה (השלמה ל 3 יח"ל)

פרק 2 - משוואות ממעלה ראשונה

תוכן העניינים

1. מבוא למשוואות (ללא ספר)
2. משוואות שקולות (ללא ספר)
3. פתרון של משוואה (ללא ספר)
4. משוואות מסוגים נוספים (ללא ספר)
5. משוואות מיוחדות (ללא ספר)
6. משוואות עם מכנה מספרי (ללא ספר)
7. משוואות עם משתנה במכנה (ללא ספר)
8. משוואות שונות (ללא ספר)
9. מבוא למשוואות ליניאריות בשני נעלמים (ללא ספר)
10. פתרון מערכת משוואות ליניאריות בדרך גרפית (ללא ספר)
11. פתרון אלגברי של מערכת שתי משוואות ליניאריות (ללא ספר)
12. פתרון שאלות מילוליות בעזרת מערכת משוואות ליניאריות (ללא ספר)

קורס מכינה במתמטיקה (השלמה ל 3 יח"ל)

פרק 3 - משוואות ממעלה שנייה

תוכן העניינים

1. משוואות ריבועיות יסודיות (ללא ספר)
2. משוואות ריבועיות חסרות (ללא ספר)
3. משוואות ריבועיות לא מסודרות (ללא ספר)
4. משוואות ריבועיות עם שברים (ללא ספר)
5. מערכת משוואות ריבועיות (ללא ספר)

קורס מכינה במתמטיקה (השלמה ל 3 יח"ל)

פרק 4 - משוואות ממעלה שלישית ומעלה

תוכן העניינים

1. משוואות הנפתרות עם הוצאת שורש מסדר גבוה (ללא ספר)
2. משוואות מהצורה $AB=0$ (ללא ספר)

קורס מכינה במתמטיקה (השלמה ל 3 יח"ל)

פרק 5 - מבוא לפונקציות

תוכן העניינים

1. מהי פונקציה (ללא ספר)
2. מערכת הצירים (ללא ספר)
3. אורכי קטעים ושטחים יסודיים (ללא ספר)
4. השתנות של פונקציה (ללא ספר)
5. קצב השתנות של פונקציה (ללא ספר)

קורס מכינה במתמטיקה (השלמה ל 3 יח"ל)

פרק 6 - הפונקציה הקווית

תוכן העניינים

1. ייצוג גרפי של פונקצית הקו הישר (ללא ספר)
2. שיפוע ישר (ללא ספר)
3. הקו הישר הכללי (ללא ספר)
4. שיפוע דרך שתי נקודות (ללא ספר)
5. משוואת ישר עם שיפוע ונקודה (ללא ספר)
6. משוואת ישר המקביל לישר נתון (ללא ספר)
7. משוואת ישר דרך שתי נקודות (ללא ספר)
8. ישרים המקבילים לצירים (ללא ספר)
9. חיתוך של ישר עם הצירים (ללא ספר)
10. חיוביות ושליילות של קו ישר (ללא ספר)
11. חישובי שטחים עם הפונקציה הקווית (ללא ספר)

קורס מכינה במתמטיקה (השלמה ל 3 יח"ל)

פרק 7 - הפונקציה הריבועית

תוכן העניינים

1. הפונקציה הריבועית היסודית $y=x^2$ (ללא ספר)
2. משפחת הפרבולות מהצורה $y=x^2+c$ (ללא ספר)
3. משפחת הפרבולות מהצורה $y=(x-p)^2$ (ללא ספר)
4. משפחת הפרבולות מהצורה $y=(x-p)^2+k$ (ללא ספר)
5. משפחת הפרבולות עם מקדם a כללי (ללא ספר)
6. משפחת הפרבולות מהצורה $y=a(x-p)^2+k$ (ללא ספר)
7. הצגה סטנדרטית של הפונקציה הריבועית (ללא ספר)
8. סרטוט של גרף הפונקציה הריבועית הכללית (ללא ספר)
9. מציאת נקודות האפס של פונקציה ריבועית עם a כללי (ללא ספר)
10. ייצוגים שונים של פונקציה ריבועית (ללא ספר)
11. חיתוך בין ישר ופרבולה (ללא ספר)
12. חיתוך בין שתי פרבולות (ללא ספר)
13. שאלות מסכמות (ללא ספר)

קורס מכינה במתמטיקה (השלמה ל 3 יח"ל)

פרק 8 - בעיות מילוליות יסודיות

תוכן העניינים

1. מבוא לבעיות מילוליות (ללא ספר)
2. כתיבה נכונה של משוואה עבור בעיה מילולית כללית (ללא ספר)
3. בעיות מתקדמות (ללא ספר)
4. בעיות קנייה ומכירה (ללא ספר)

קורס מכינה במתמטיקה (השלמה ל 3 יח"ל)

פרק 9 - בעיות מילוליות בשני נעלמים

תוכן העניינים

1. בעיות קנייה ומכירה (ללא ספר)

קורס מכינה במתמטיקה (השלמה ל 3 יח"ל)

פרק 10 - בעיות מילוליות עם אחוזים

תוכן העניינים

1. הגדרת האחוז והמרות יסודיות (ללא ספר)
2. הקשר שבין הכמות הכללית, האחוז וערך האחוז (ללא ספר)
3. שתי התייקרויות והוזלות (ללא ספר)
4. בעיות עם אחוזים בנעלם אחד (ללא ספר)
5. בעיות עם אחוזים בשני נעלמים (ללא ספר)

קורס מכינה במתמטיקה (השלמה ל 3 יח"ל)

פרק 11 - בעיות מילוליות ממעלה שנייה - להעשרה

תוכן העניינים

1. בעיות כלכליות..... (ללא ספר)
2. בעיות עם מספרים..... (ללא ספר)

קורס מכינה במתמטיקה (השלמה ל 3 יח"ל)

פרק 12 - סדרה חשבונית

תוכן העניינים

1. נוסחת האיבר הכללי (ללא ספר)
2. מציאת האיבר הראשון והפרש הסדרה (ללא ספר)
3. חיבור משוואות מתאימות לפי תיאור מילולי (ללא ספר)
4. שאלות מילוליות יסודיות עם נוסחת האיבר הכללי (ללא ספר)
5. סכום האיברים בסדרה חשבונית (ללא ספר)
6. סכום איברים שונים בסדרה (ללא ספר)
7. מציאת מספר איברי הסדרה על פי סכום (ללא ספר)

קורס מכינה במתמטיקה (השלמה ל 3 יח"ל)

פרק 13 - סדרה הנדסית

תוכן העניינים

1. נוסחת האיבר הכללי (ללא ספר)
2. מציאת האיבר הראשון (ללא ספר)
3. מציאת מנת הסדרה (ללא ספר)
4. שתי משוואות עם שני נעלמים (ללא ספר)
5. סכום סדרה הנדסית (ללא ספר)
6. שאלות מילוליות שונות עם סדרה הנדסית (ללא ספר)

קורס מכינה במתמטיקה (השלמה ל 3 יח"ל)

פרק 14 - טריגונומטריה במישור - רמה יסודית

תוכן העניינים

1. משולשים בגאומטריה (ללא ספר)
2. שטח והיקף של משולש (ללא ספר)
3. פונקצית הטנגנס (ללא ספר)
4. פונקצית הסינוס (ללא ספר)
5. פונקצית הקוסינוס (ללא ספר)
6. שימוש בפונקציות סינוס, קוסינוס וטנגנס יחדיו (ללא ספר)
7. שאלות עם שני משולשים (ללא ספר)
8. שאלות עם קטעים מיוחדים במשולש (ללא ספר)
9. מציאת צלעות וגבהים על פי שטח נתון (ללא ספר)
10. שאלות עם משולש שווה שוקיים (ללא ספר)
11. שאלות עם מלבן (ללא ספר)
12. שאלות עם מעוין (ללא ספר)
13. שאלות עם משולשים במערכת צירים (ללא ספר)

קורס מכינה במתמטיקה (השלמה ל 3 יח"ל)

פרק 15 - טריגונומטריה במישור - רמה מתקדמת

תוכן העניינים

1. חזרה על הפונקציות הטריגונומטריות (ללא ספר)
2. שאלות עם קטעים מיוחדים במשולש (ללא ספר)
3. שאלות עם משולש שווה שוקיים (ללא ספר)
4. זווית גובה וזווית עומק (ללא ספר)
5. שאלות עם יחסי גדלים ואחוזים (ללא ספר)
6. שאלות עם מלבן (ללא ספר)
7. שאלות עם מעוין (ללא ספר)
8. שאלות עם טרפז (ללא ספר)
9. שאלות עם מרחקים (ללא ספר)

קורס מכינה במתמטיקה (השלמה ל 3 יח"ל)

פרק 16 - גיאומטריה אנליטית - הישר

תוכן העניינים

1. מושגי יסוד בגיאומטריה אנליטית 47
2. משוואת הישר 51
3. מצבים הדדיים בין ישרים 55
4. שאלות מסכמות 57

מושגי יסוד בגיאומטריה אנליטית:

סיכום כללי:

נוסחאות כלליות:

- המרחק בין הנקודות $A(x_1, y_1)$ ו- $B(x_2, y_2)$ יחושב ע"י הנוסחה הבאה:

$$d = \sqrt{(x_2 - x_1)^2 + (y_2 - y_1)^2}$$

- אמצע הקטע M שקצוותיו הם: $A(x_1, y_1)$ ו- $B(x_2, y_2)$ הוא:

$$x_M = \frac{x_1 + x_2}{2}, \quad y_M = \frac{y_1 + y_2}{2}$$

- שיפוע ישר בין שתי נקודות $A(x_1, y_1)$ ו- $B(x_2, y_2)$ הוא: $m_{AB} = \frac{y_2 - y_1}{x_2 - x_1} = \frac{y_1 - y_2}{x_1 - x_2}$

שאלות:

שאלות העוסקות באמצע קטע:

- (1) מצא את אמצעי הקטעים שקודקודיהם נתונים ע"י הנקודות A ו-B:

א. $A(1, 4), B(5, -8)$ ב. $A(-3, 0), B(3, -2)$

ג. $A(4, 5), B(-4, -5)$ ד. $A\left(\frac{1}{2}, \frac{3}{4}\right), B\left(7\frac{1}{2}, -2\right)$

ה. $A(6, -1), B(-3, -1)$ ו. $A(4, 7), B(4, -12)$

- (2) נתון קטע AB שאמצעו בנקודה M.

מצא את שיעורי נקודת הקצה B אם נתונים שיעורי הנקודות של A ושל M:

א. $A(4, -2), M(2, 1)$ ב. $A(-6, -8), M(0, 0)$

ג. $A(13, -11), M(4, -7)$ ד. $A\left(\frac{1}{3}, -\frac{4}{3}\right), M\left(\frac{2}{3}, -\frac{1}{3}\right)$

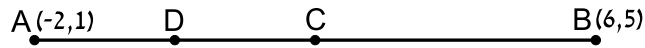
- (3) נתון משולש שווה שוקיים ABC שבו A הוא קדקוד הראש.

ידוע כי שיעורי הקודקודים B ו-C הם $B(2, -4), C(6, 1)$.

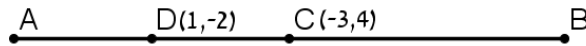
מעבירים תיכון AD לבסיס BC.

מצא את שיעורי הנקודה D.

- (4) באיור שלפניך C היא נקודת האמצע של AB, ו-D היא נקודת האמצע של AC.
ידוע כי: $A(-2,1)$, $B(6,5)$.
מצא את שיעורי הנקודה D.



- (5) באיור שלפניך C היא נקודת האמצע של AB, ו-D היא נקודת האמצע של AC.
ידוע כי: $C(-3,4)$, $D(1,-2)$.
מצא את שיעורי הנקודות A ו-B.



- (6) הנקודות $A(2,-7)$, $B(-10,4)$ ו- $C(6,11)$ הן שלושה קודקודים של מקבילית ABCD.
מצא את שיעורי הקודקוד הרביעי.

שאלות העוסקות במרחק בין שתי נקודות:

- (7) מצא את המרחק בין זוגות הנקודות הבאות:
- | | |
|-----------------------|-----------------------|
| א. $A(4,7), B(-3,7)$ | ב. $A(6,2), B(1,2)$ |
| ג. $A(-3,10), B(0,6)$ | ד. $A(6,-9), B(1,3)$ |
| ה. $A(4,7), B(13,-1)$ | ו. $A(6,6), B(-9,-9)$ |
- (8) חשב את היקף המשולש ABC שקודקודיו הם: $A(3,-2)$, $B(4,9)$, $C(0,14)$.
- (9) נתונות נקודות $A(14,4)$, $B(6,y)$ שמרחקן הוא 10 יחידות אורך.
מצא את y .
- (10) נתונות נקודות $A(x,-12)$, $B(15,-2)$ שמרחקן הוא 26 יחידות אורך.
מצא את x .
- (11) נתונה נקודה B ברביע השלישי, ששיעור ה- y שלה גדול פי 3 משיעור ה- x שלה ומרחקה מהנקודה $A(-4,1)$ הוא 5. מצא את שיעורי הנקודה B.

12 במשולש שווה שוקיים ABC ($AB = AC$) ידוע כי אורכי השוקיים הוא $\sqrt{45}$ יחידות אורך. שיעורי הקודקוד A הם $(0,4)$ ושיעורי ה- y של הקודקודים B ו- C הוא -2 . מצא את קודקודי המשולש B ו- C (הנח B ברביע הרביעי).

13 אורך האלכסון AC במלבן $ABCD$ הוא $d_{AC} = \sqrt{50}$ וידוע כי: $A(-3,-2)$, $B(-4,1)$. מצא את היקף המלבן.

שאלות העוסקות בשיפוע בין שתי נקודות:

14 מצא את השיפוע בין זוגות הנקודות הבאים:

- | | |
|-------------------------|---------------------------|
| א. $A(5,2)$, $B(4,1)$ | ב. $A(3,-2)$, $B(-3,1)$ |
| ג. $A(7,8)$, $B(6,15)$ | ד. $A(0,5)$, $B(7,0)$ |
| ה. $A(6,9)$, $B(6,-7)$ | ו. $A(4,-1)$, $B(18,-1)$ |

15 מצא את שיפועי הישרים שצלעות המשולש שקודקודיו הם: $A(6,5)$, $B(2,13)$, $C(4,-7)$ מונחים עליהם.

תשובות סופיות:

- (1) א. $(3, -2)$ ב. $(0, -1)$ ג. $(0, 0)$ ד. $\left(4, -\frac{5}{8}\right)$
- ה. $(1.5, -1)$ ו. $(4, -2.5)$
- (2) א. $B(0, 4)$ ב. $B(6, 8)$ ג. $B(-5, -3)$ ד. $B\left(1, \frac{2}{3}\right)$
- (3) $D(4, -1.5)$
- (4) $D(0, 2)$
- (5) $A(5, -8)$, $B(-11, 16)$
- (6) $D(18, 0)$
- (7) א. $d_{AB} = 7$ ב. $d_{AB} = 5$ ג. $d_{AB} = 5$ ד. $d_{AB} = 13$
- ה. $d_{AB} = \sqrt{145}$ ו. $d_{AB} = 15\sqrt{2}$
- (8) $P_{ABC} \approx 33.727$ יחידות אורך
- (9) $y = -2$ או $y = 10$
- (10) $x = 39$ או $x = -9$
- (11) $B(-1, -3)$
- (12) $B(3, -2)$, $C(-3, -2)$
- (13) $P_{ABCD} = 6\sqrt{10} \approx 18.97$ יחידות אורך
- (14) א. $m_{AB} = 1$ ב. $m_{AB} = -\frac{1}{2}$ ג. $m_{AB} = -7$ ד. $m_{AB} = -\frac{5}{7}$
- ה. שיפוע לא מוגדר. ו. $m_{AB} = 0$
- (15) $m_{AB} = -2$, $m_{BC} = -10$, $m_{AC} = 6$

משוואת הישר:

סיכום כללי:

שיפועים של ישרים:

- שיפועי ישרים מאונכים מקיימים: $m_1 \cdot m_2 = -1$.
- הקשר בין שיפוע ישר לזווית שהוא יוצר עם הכיוון החיובי של ציר ה- x : $m = \tan \alpha$.

משוואת הישר:

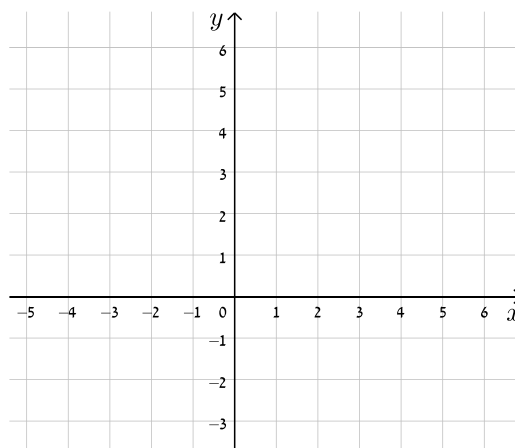
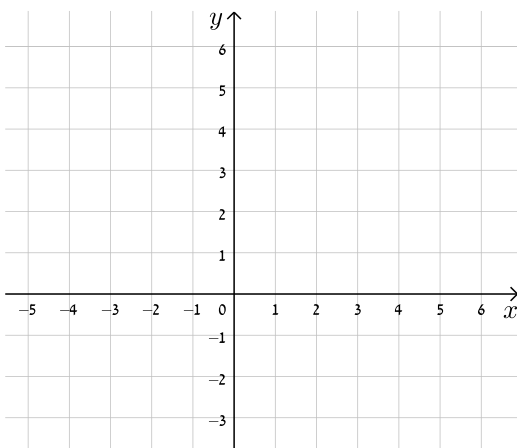
- משוואת ישר מפורשת היא מהצורה: $y = mx + n$.
כאשר: m הוא שיפוע הישר ו- n הוא שיעור ה- y של נקודת החיתוך של הישר עם ציר ה- y .
- נוסחה למציאת משוואת ישר: $y - y_1 = m(x - x_1)$.

שאלות:

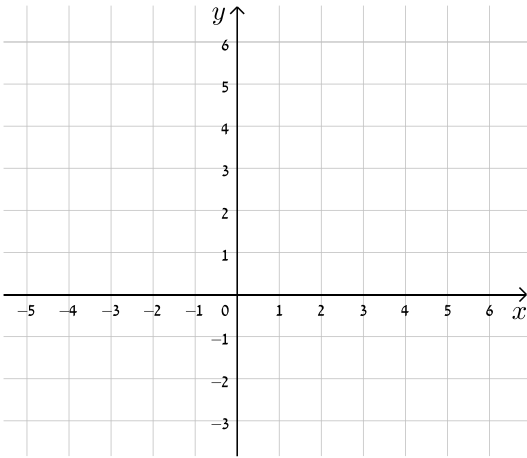
16) עבור כל אחד ממשוואות הישרים הבאות, מצא את נקודות החיתוך עם הצירים וסרטט את הישרים במערכת הצירים שלפניך.

א. $y = x + 4$

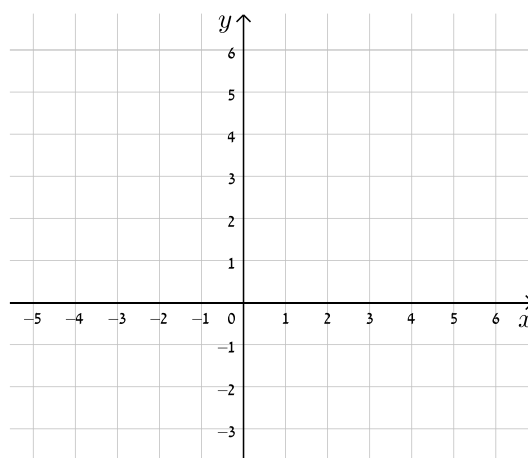
ב. $y = -x + 5$



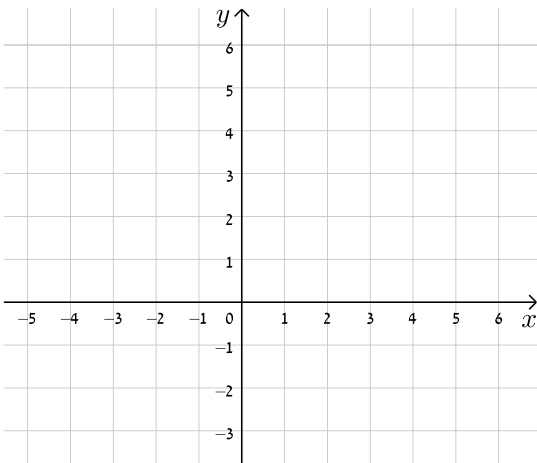
$$ד. \quad y = -3x + 5$$



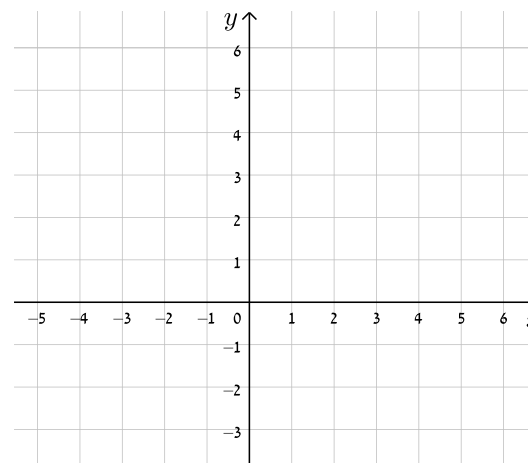
$$ג. \quad y = 2x - 3$$



$$ו. \quad y = 8 - 4x$$

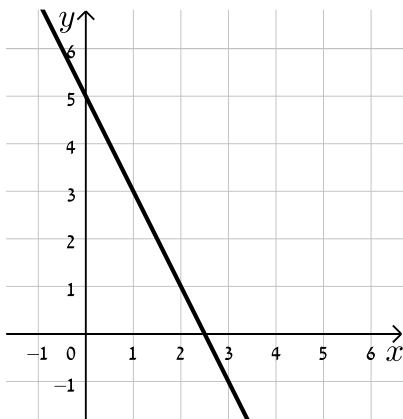


$$ה. \quad y = 3x - 1$$

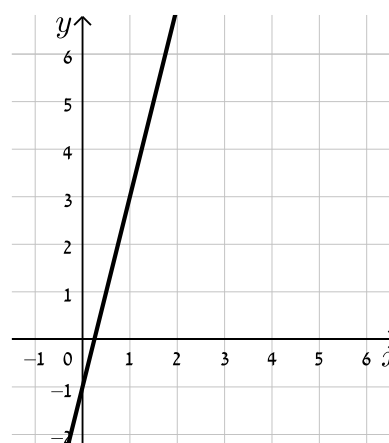


17) כתוב את משוואת הישר המתאימה לכל אחד מהישרים הבאים:

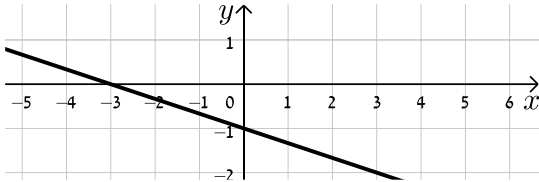
ב.



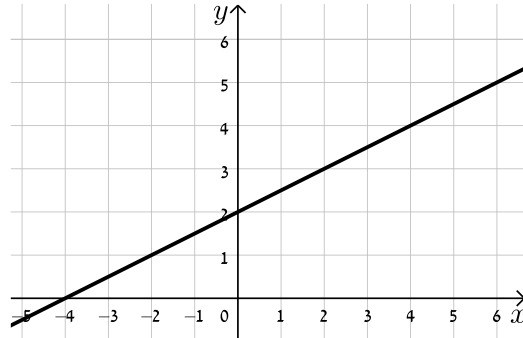
א.



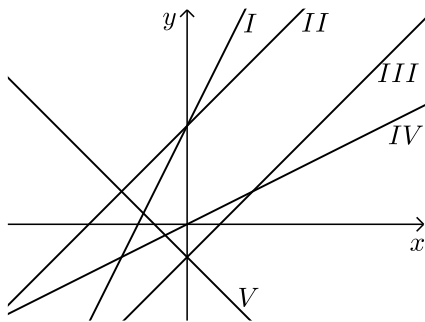
ד.



ג.



18) התאם בין משוואות הישרים הבאים לישרים בשרטוט:



א. $y = x + 3$

ב. $y = -x - 1$

ג. $y = 2x + 3$

ד. $y = x - 1$

ה. $y = \frac{1}{2}x$

19) נתונה משוואת הישר הבאה: $y = 2x + 3$. קבע אלו מבין הנקודות הבאות

נמצאות עליו: $A(-1,1)$, $B(3,3)$, $C(0,4)$, $D(6,15)$.

20) נתונה משוואת הישר הבאה: $y = mx - 2.5$. ידוע כי הנקודה $A(4,2)$ נמצאת

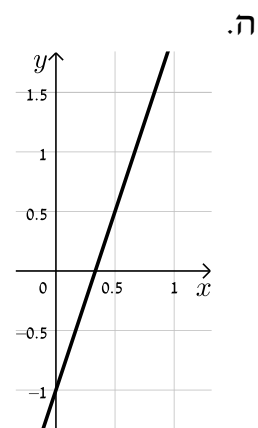
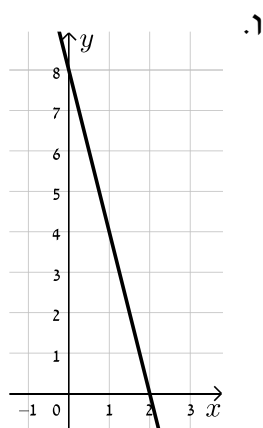
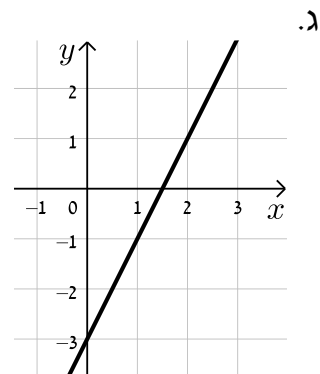
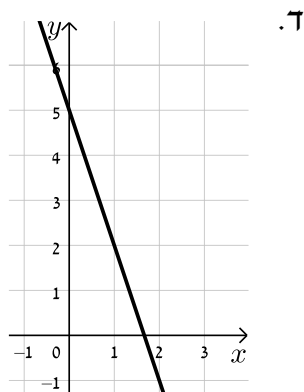
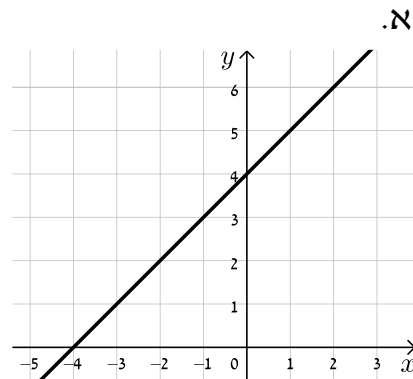
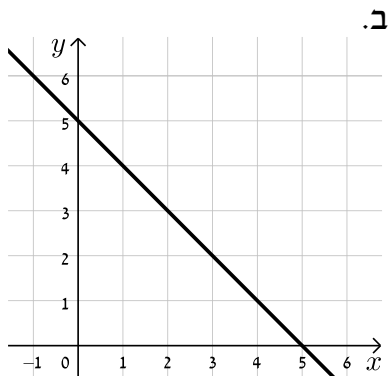
על הישר. מצא את m וקבע האם גם הנקודה $B(7,-2)$ נמצאת עליו.

21) הנקודות $A(5,-3)$, $B(4,1)$ נמצאות על ישר שמשוואתו היא: $y = mx + n$.

מצא את m ואת n .

תשובות סופיות:

16) להלן הגרפים של משוואות הישרים:



17) א. $y = 4x - 1$ ב. $y = -2x + 5$ ג. $y = \frac{1}{2}x + 2$ ד. $y = -\frac{1}{3}x - 1$

18) א. II ב. V ג. I ד. III ה. IV

19) נמצאות: A, D. לא נמצאות: B, C.

20) B לא נמצאת, $m = \frac{9}{8}$

21) $m = -4$, $n = 17$

מצבים הדדיים בין ישרים:

סיכום כללי:

מצב הדדי בין שני ישרים:

- ישרים מקבילים מקיימים: $m_1 = m_2, n_1 \neq n_2$.
- ישרים חותכים מקיימים: $m_1 \neq m_2$.
- ישרים מתלכדים מקיימים: $m_1 = m_2, n_1 = n_2$.

שאלות:

22) מצא את נקודות החיתוך שבין זוגות הישרים הבאים:

$\begin{cases} y = 2x - 4 \\ y = x + 6 \end{cases} \quad \text{ג.}$	$\begin{cases} y = x - 12 \\ y = 4x + 6 \end{cases} \quad \text{ב.}$	$\begin{cases} y = 3x + 4 \\ y = -2x - 1 \end{cases} \quad \text{א.}$
---	--	---

23) קבע את המצב ההדדי בין זוגות הישרים הבאים:

$\begin{cases} y = x - 7 \\ y = x + 6 \end{cases} \quad \text{ב.}$	$\begin{cases} y = 3x + 4 \\ y = 2x + 4 \end{cases} \quad \text{א.}$
$\begin{cases} y = x + 8 \\ y = x + 8 \end{cases} \quad \text{ד.}$	$\begin{cases} y = 6x - 15 \\ y = 3x + 41 \end{cases} \quad \text{ג.}$

24) קבע אלו מבין זוגות הישרים הבאים הם מאונכים זה לזה:

$\begin{cases} y = 2x \\ y = \frac{1}{2}x + 4 \end{cases} \quad \text{ב.}$	$\begin{cases} y = 3x + 1 \\ y = 3x - 1 \end{cases} \quad \text{א.}$
$\begin{cases} y = x - 6 \\ y = -x + 6 \end{cases} \quad \text{ד.}$	$\begin{cases} y = -4x - 5 \\ y = \frac{1}{4}x + 5 \end{cases} \quad \text{ג.}$

25) משוואת הצלע AB של המלבן ABCD היא $y = 6x - 2$.

- מה הם שיפועי הצלעות האחרות של המלבן?
- כיצד תשתנה תשובתך לסעיף הקודם אם משוואת הישר הנ"ל הייתה שייכת לצלע BC במקום AB?

(26) במשולש ABC נתונים שיעורי הקודקודים: $A(5,-1)$, $B(3,7)$, $C(-5,5)$. הוכח שהמשולש ישר זווית ושווה שוקיים.

(27) מצא את משוואות הישרים הבאים:

- א. ישר העובר דרך הנקודה $A(1,3)$ ושיפועו $m=2$.
- ב. ישר העובר דרך הנקודה $A(0,-4)$ ושיפועו $m=\frac{1}{3}$.
- ג. ישר העובר דרך הנקודה $A(5,9)$ ושיפועו $m=0$.
- ד. ישר העובר דרך הנקודות $A(5,-12)$ ו- $B(6,-6)$.
- ה. ישר העובר דרך הנקודה $A(-6,4)$ ומקביל לישר: $y=2x-3$.
- ו. ישר העובר דרך הנקודה $A(3,-5)$ ומקביל לציר ה- y .
- ז. ישר העובר דרך הנקודה $A(-7,-3)$ ומאונך לישר: $y=x+3$.
- ח. ישר העובר דרך נקודת החיתוך של הישרים: $y=11x-4$ ו- $y=3x-12$ ומקביל לישר: $y=7x+5$.

תשובות סופיות:

- (22)** א. $(-1,1)$ ב. $(-6,-18)$ ג. $(10,16)$.
- (23)** א. נחתכים. ב. מקבילים. ג. נחתכים. ד. מתלכדים.
- (24)** מאונכים: ג', ד'. לא מאונכים: א', ב'.
- (25)** א. $m_{AB} = m_{CD} = 6$, $m_{BC} = m_{AD} = -\frac{1}{6}$.
- ב. הכל הפוך: $m_{BC} = m_{AD} = 6$, $m_{AB} = m_{CD} = -\frac{1}{6}$.
- (26)** שאלת הוכחה.
- (27)** א. $y=2x+1$ ב. $y=\frac{1}{3}x-4$ ג. $y=9$ ד. $y=6x-42$
- ה. $y=2x+16$ ו. $x=3$ ז. $y=-x-10$ ח. $y=7x-8$

שאלות מסכמות:

שאלות:

(28) במשולש ABC מעבירים את התיכון AD לצלע BC.

ידוע כי: $A(3, -2)$, $B(2, 4)$, $D(-2, 2)$.

- כתוב את משוואת הישר של התיכון AD.
- מצא את שיעורי הקודקוד C.
- כתוב את משוואת הישר של הצלע AC.

(29) נתון מעוין ABCD שבו נתונים הקודקודים A(-9,1) ו-B(5,-7).

משוואת הישר עליו מונח האלכסון AC היא $x + 3y + 6 = 0$.

- מצא את משוואת הישר עליו מונח האלכסון BD.
- מצא את משוואת הישר עליו מונחת הצלע BC.

(30) שלוש המשוואות הבאות מייצגות את הישרים המופיעים בשרטוט:

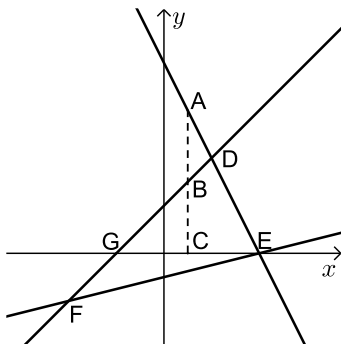
$$2x + y - 8 = 0 \text{ ו- } x - y + 2 = 0, \quad x - 4y - 4 = 0$$

הקטע AC מקביל לציר ה-y.

א. חשב את שטח המשולש DEF.

ב. נתון: $d_{BC} = 3$.

חשב את אורך הקטע AB.



(31) BD הוא התיכון לצלע AC במשולש ABC שבו נתון הקודקוד A(-6,1).

משוואת התיכון BD היא $x - y = 1$ ומשוואת הצלע BC היא $3x + 5y = 67$.

מצא את שיעורי הקודקוד C.

(32) נתון טרפז ABCD ($AB \parallel CD$) ובו משוואת השוק BC היא: $x = 2$.

משוואת הבסיס CD היא $2x + 3y = 7$ וידוע כי $A(-4, 1)$.

- מצא את משוואת הבסיס AB.
- מצא את שיעורי הקודקודים B ו-C.
- מעבירים את האלכסון AC. הראה כי המשולש ABC הוא ישר זווית ומצא את שטחו.

תשובות סופיות:

$$(28) \text{ א. } y = -\frac{4}{5}x + \frac{2}{5} \quad \text{ב. } C(-6, 0) \quad \text{ג. } y = -\frac{2}{9}x - \frac{4}{3}$$

$$(29) \text{ א. } l_{BD} : y = 3x - 22 \quad \text{ב. } l_{BC} : y = -\frac{1}{8}x - 6\frac{3}{8}$$

$$(30) \text{ א. } 18 \text{ יחידות שטח} \quad \text{ב. } 3 \text{ יחידות אורך} \quad S_{EDF}$$

$$(31) \text{ C}(14, 5)$$

$$(32) \text{ א. } y = -\frac{2}{3}x - \frac{5}{3} \quad \text{ב. } B(2, -3), C(2, 1) \quad \text{ג. } 12 \text{ יחידות שטח} \quad S_{ABC}$$

קורס מכינה במתמטיקה (השלמה ל 3 יח"ל)

פרק 17 - גיאומטריה אנליטית - המעגל

תוכן העניינים

- 1. שאלות יסודיות במציאת משוואת מעגל..... 59
- 2. מעגל המשיק לצירים..... 63
- 3. משיק למעגל..... 64
- 4. שאלות מסכמות..... 65

שאלות יסודיות במציאת משוואת מעגל:

סיכום כללי:

הגדרה:

המקום הגאומטרי של כל הנקודות, הנמצאות במרחק קבוע מנקודה קבועה במישור נקרא מעגל.

משוואת מעגל:

משוואת מעגל שמרכזו בנקודה $M(a,b)$ ורדיוסו R היא: $(x-a)^2 + (y-b)^2 = R^2$.

משוואת מעגל קנוני:

משוואת מעגל קנוני (שמרכזו בראשית הצירים $M(0,0)$)

ורדיוסו R היא: $x^2 + y^2 = R^2$.

שאלות:

(1) מצא את מרכזם ורדיוסם של המעגלים הבאים:

א. $(x-3)^2 + (y+5)^2 = 49$

ב. $\left(x + \frac{1}{2}\right)^2 + y^2 = 10$

ג. $(x-m)^2 + (y+n)^2 = m^2 + n^2$

(2) כתוב את משוואות המעגלים שמרכזם M ורדיוסם R :

א. $M(-3,5), R=10$

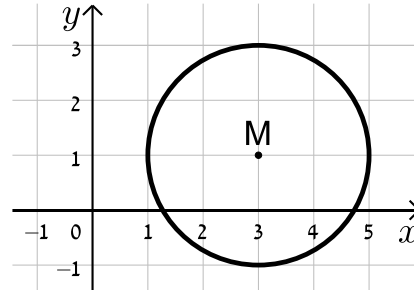
ב. $M(4,-2), R=3$

ג. $M(10,-12), R=\sqrt{30}$

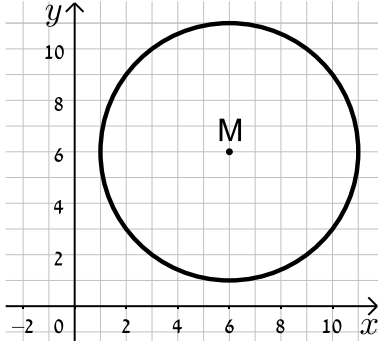
ד. $M(5,5), R=\sqrt{40}$

3) כתוב את משוואות המעגלים הבאים בכל מקרה:

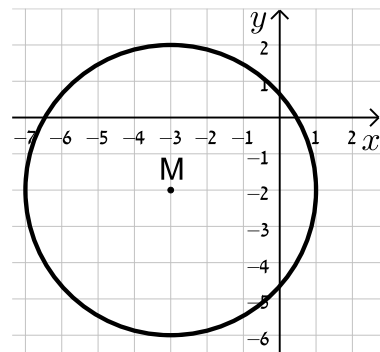
א.



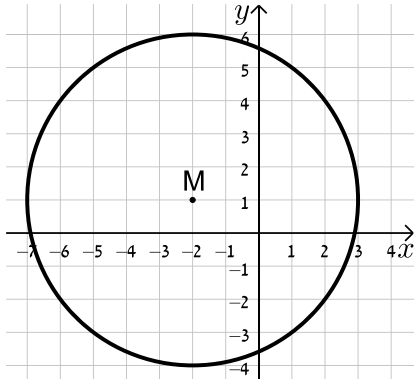
ב.



ג.



ד.



4) מצא את משוואתו של מעגל שעובר בנקודה $A(-4, 5)$ ומרכזו בנקודה $O(2, -1)$.

5) מצא את משוואת המעגל שמרכזו בנקודה $M(-5, 6)$ והוא חותך את ציר ה- x בנקודה שבה $x = 9$.

6) מצא את משוואת המעגל שמרכזו בנקודה $M(0, -7)$ והוא חותך את ציר ה- y בנקודה שבה $y = 3$.

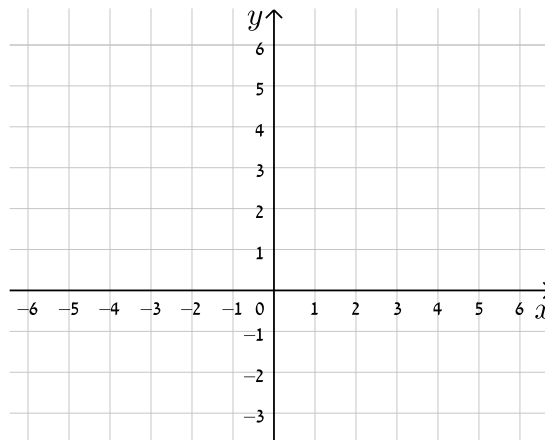
7) מצא את משוואתו של מעגל שעובר בנקודה $A(11, 2)$, רדיוסו 13 ומרכזו נמצא על הישר $y = 2x - 1$.

8) מצא את משוואתו של מעגל שהנקודות $A(-2, 3)$ ו- $B(4, -3)$ הן קצות הקוטר שלו.

9 מצא את משוואתו של מעגל שמרכזו נמצא על הישר $x=4$, רדיוסו 10 והוא חותך מציר ה- x מיתר שאורכו 12.

10 נתונים שני מעגלים בעלי אותו המרכז $M(3,-1)$, האחד הוא בעל רדיוס R והשני בעל רדיוס של $2R$.

- כתוב את המשוואות של שני המעגלים (בטא באמצעות R).
- מה תהיינה המשוואות עבור $R=2$?
- צייר את שני המעגלים במערכת הצירים שלפניך.



11 שני מעגלים עם מרכזים $M_1(6,2)$ ו- $M_2(-3,-4)$ חותכים זה את זה בנקודה $(-2,3)$. מצא את משוואות המעגלים.

תשובות סופיות:

$$M(-0.5, 0), R = \sqrt{10} \text{ ב.} \quad M(3, -5), R = 7 \text{ א.} \quad (1)$$

$$\text{ג. } M(m, -n), R = \sqrt{m^2 + n^2} .$$

$$(x+3)^2 + (y-5)^2 = 100 \text{ ב.} \quad (x-4)^2 + (y+2)^2 = 9 \text{ א.} \quad (2)$$

$$(x-10)^2 + (y+12)^2 = 30 \text{ ד.} \quad (x-5)^2 + (y-5)^2 = 40 \text{ ג.}$$

$$(x-6)^2 + (y-6)^2 = 25 \text{ ב.} \quad (x-3)^2 + (y-1)^2 = 4 \text{ א.} \quad (3)$$

$$(x+2)^2 + (y-1)^2 = 25 \text{ ד.} \quad (x+3)^2 + (y+2)^2 = 16 \text{ ג.}$$

$$(x-2)^2 + (y+1)^2 = 72 \quad (4)$$

$$(x+5)^2 + (y-6)^2 = 232 \quad (5)$$

$$x^2 + (y+7)^2 = 100 \quad (6)$$

$$(x-7.8)^2 + (y-14.6)^2 = 169 \text{ או } (x+1)^2 + (y+3)^2 = 169 \quad (7)$$

$$(x-1)^2 + y^2 = 18 \quad (8)$$

$$(x-4)^2 + (y+8)^2 = 100 \text{ או } (x-4)^2 + (y-8)^2 = 100 \quad (9)$$

$$(x-3)^2 + (y+1)^2 = R^2, (x-3)^2 + (y+1)^2 = 4R^2 \text{ א.} \quad (10)$$

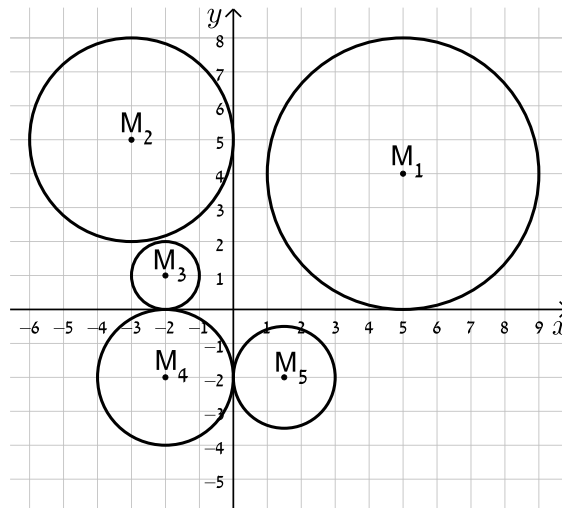
$$(x-3)^2 + (y+1)^2 = 4, (x-3)^2 + (y+1)^2 = 16 \text{ ב.}$$

$$(x+3)^2 + (y+4)^2 = 50, (x-6)^2 + (y-2)^2 = 65 \quad (11)$$

מעגל המשיק לצירים:

שאלות:

(12) כתוב את משוואות המעגלים הבאים:



(13) מצא את משוואתו של מעגל המשיק לשני הצירים ורדיוסו 4.

(14) מצא את משוואת המעגל שמשקיף לציר ה- x ומרכזו בנקודה $M(16,8)$.

(15) מצא את משוואת המעגל שמרכזו נמצא על הישר $2x+3y+6=0$ והוא משיק לשני הצירים.

תשובות סופיות:

$$M_1 : (x-5)^2 + (y-4)^2 = 16, M_2 : (x+3)^2 + (y-5)^2 = 9$$

$$M_3 : (x+2)^2 + (y-1)^2 = 1, M_4 : (x+2)^2 + (y+2)^2 = 4 \quad (12)$$

$$M_5 : (x-1.5)^2 + (y+2)^2 = 2\frac{1}{4}$$

$$(x \pm 4)^2 + (y \pm 4)^2 = 16 \quad (13)$$

$$(x-16)^2 + (y-8)^2 = 64 \quad (14)$$

$$\left(x+1\frac{1}{5}\right)^2 + \left(y+1\frac{1}{5}\right)^2 = \frac{36}{25}, (x-6)^2 + (y+6)^2 = 36 \quad (15)$$

משיק למעגל:

שאלות:

16 מצא את משוואות המשיקים למעגל $(x+1)^2 + (y-2)^2 = 25$ בנקודות על המעגל שבהן $y = 5$.

תשובות סופיות:

16 $4x + 3y = 27$ ו- $4x - 3y + 35 = 0$.

שאלות מסכמות:

שאלות:

(17) נתון מעגל שמשוואתו: $(x-3)^2 + (y+4)^2 = 25$.

- א. מצא את נקודות החיתוך של המעגל עם הצירים.
 ב. העבירו קוטר במעגל, המאונך לציר ה- x .
 מצא את שטח המרובע הנוצר על ידי נקודות החיתוך שמצאת בסעיף א' ונקודת החיתוך של הקוטר עם המעגל הנמצאת ברביע הראשון.

(18) נתון ישר שמשוואתו: $y = 2x - 10$.

- הישר חותך את ציר ה- x בנקודה A ואת ציר ה- y בנקודה B.
 בנקודה A מעבירים משיק למעגל שהקטע AB הוא קוטרו.
 המשיק חותך את ציר ה- y בנקודה C.
 מצא את אורך הקטע BC.

(19) נתון המעגל שמשוואתו: $x^2 + y^2 = 81$.

- מסמנים ב-A את נקודת החיתוך החיובית של המעגל עם ציר ה- x .
 הנקודה A היא מרכזו של מעגל נוסף בעל רדיוס של 12.
 מסמנים את נקודות החיתוך של שני המעגלים ב-B ו-C.
 מצא את שטח המשולש שנוצר בין הנקודות B, C ו-O (ראשית הצירים).

תשובות סופיות:

(17) א. $(0, -8)$, $(6, 0)$, $(0, 0)$. ב. 27 יח"ש.

(18) 12.5 יחידות אורך.

(19) $S_{\triangle BOC} = \sqrt{80}$ יח"ש.

קורס מכינה במתמטיקה (השלמה ל 3 יח"ל)

פרק 18 - חשבון דיפרנציאלי - פונקציה פולינומית

תוכן העניינים

1. פונקציה פולינומית..... (ללא ספר)

קורס מכינה במתמטיקה (השלמה ל 3 יח"ל)

פרק 19 - חשבון דיפרנציאלי - פונקציה רציונאלית

תוכן העניינים

1. כללי (ללא ספר)

קורס מכינה במתמטיקה (השלמה ל 3 יח"ל)

פרק 20 - חשבון דיפרנציאלי - פונקצית שורש

תוכן העניינים

1. פונקציית שורש (ללא ספר)

קורס מכינה במתמטיקה (השלמה ל 3 יח"ל)

פרק 21 - חשבון דיפרנציאלי - בעיות מינימום מקסימום

תוכן העניינים

1. כללי (ללא ספר)

קורס מכינה במתמטיקה (השלמה ל 3 יח"ל)

פרק 22 - חשבון אינטגרלי

תוכן העניינים

1. כללי (ללא ספר)