

פיזיקה 1 להנדסת אלקטרוניקה ותכנה 3 שעות שבועיות



תוכן העניינים

1	מבוא מתמטי
14	2. וקטורים-
37	3. קינמטיקה - תנועה במישור (מהמכינה).
44	4. קינמטיקה -
67	5. תנועה יחסית -
74	6. דינמיקה - חוקי ניוטון.
84	7. עבודה ואנרגיה -
101	8. מתקף ותנע-חלק ראשון(רמת מכינה)
115	9. מתקף ותנע -חלק שני
127	10. מרכז מסה -
131	11. תנועה מעגלית
148	12. מומנט התמד -ירד במיקוד
154	13. מומנט כוח -
164	14. גוף קשיח -ירד במיקוד
176	15. כוח גרר וכוח ציפה -לא למדנו
182	16. תנועה הרמונית -
199	17. תרגילים נוספים לתנועה הרמונית פשוטה
(ללא ספר)	18. שיעורים מוקלטים

פיזיקה 1 להנדסת אלקטרוניקה ותכנה

3 שעות שבועיות

פרק 1 - מבוא מתמטי

תוכן העניינים

1	מעברי יחידות	1
3	סינוס קוסינוס ומה שביניהם	2
7	נגזרות ואינטגרלים בסיסיים	3
13	צפיפות	4

מעברי יחידות:

שאלות:

(1) דוגמה 1

נתון: $A = 2\text{km}$, $B = 10\text{gr}$.

מצא את $C = A \cdot B$ ביחידות של m.k.s.

(2) דוגמה 2

נתון: $A = 2\text{m}^2$, $B = 3\text{gr}$, $C = 5\text{c.m} \cdot \text{s}$.

חשב את הגדלים הבאים ביחידות של m.k.s:

א. $D = 2 \cdot A$

ב. $E = \frac{5 \cdot B \cdot C}{A}$

(3) מעבר יחידות בחזקות

מצא את הגדלים הבאים ביחידות של ס"מ:

א. $A = 1\text{m}^2$

ב. $B = 1\text{m}^3$

(4) סנטימטר בשלישית

הבע את הערכים הנ"ל ביחידות של c.m^3 :

א. 5.2m^3

ב. 320mm^3

ג. 0.0054km^3

(5) ליטר, דוגמה

הבע את הגדלים הבאים ב-Liter:

א. 5m^3

ב. 5mm^3

תשובות סופיות:

(1) $20\text{m} \cdot \text{kg}$

(2) 4m^2

(3) 10^4cm^2

(4) $5.2 \cdot 10^6\text{cm}^3$

(5) $5 \cdot 10^3\text{Liter}$

ב. $37.5 \cdot 10^{-5} \frac{\text{sec} \cdot \text{kg}}{\text{m}}$

ב. 10^6cm^3

ב. 0.32cm^3 ג. $5.4 \cdot 10^{12}\text{cm}^3$

ב. $5 \cdot 10^{-6}\text{Liter}$

סינוס קוסינוס ומה שביניהם:

רקע

במשולש ישר זווית:

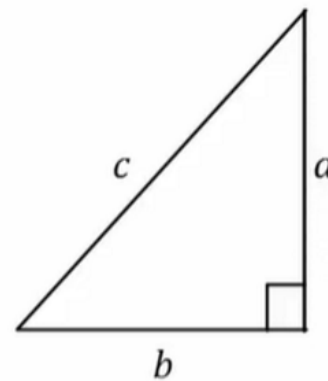
$$\sin \alpha = \frac{a}{c} = \frac{\text{ניצב שמול}}{\text{יתר}}$$

$$\cos \alpha = \frac{b}{c} = \frac{\text{ניצב ליד}}{\text{יתר}}$$

$$\tan \alpha = \frac{a}{b} = \frac{\text{ניצב שמול}}{\text{ליד ניצב}}$$

$$\tan \alpha = \frac{\sin \alpha}{\cos \alpha}$$

$$\cot \alpha = \frac{b}{a} = \frac{\text{ניצב ליד}}{\text{ניצב שמול}} = \frac{1}{\tan \alpha}$$



משפט פיתגורס:

$$a^2 + b^2 = c^2$$

זוויות:

$\sin(90^\circ - \alpha) = \cos \alpha$ $\cos(90^\circ - \alpha) = \sin \alpha$ $\tan(90^\circ - \alpha) = \cot \alpha$ $\cot(90^\circ - \alpha) = \tan \alpha$	$90^\circ - \alpha$
$\sin(90^\circ + \alpha) = \cos \alpha$ $\cos(90^\circ + \alpha) = -\sin \alpha$ $\tan(90^\circ + \alpha) = -\cot \alpha$ $\cot(90^\circ + \alpha) = -\tan \alpha$	$90^\circ + \alpha$
$\sin(180^\circ - \alpha) = \sin \alpha$ $\cos(180^\circ - \alpha) = -\cos \alpha$ $\tan(180^\circ - \alpha) = -\tan \alpha$ $\cot(180^\circ - \alpha) = -\cot \alpha$	$180^\circ - \alpha$
$\sin(-\alpha) = -\sin \alpha$ $\cos(-\alpha) = \cos \alpha$ $\tan(-\alpha) = -\tan \alpha$ $\cot(-\alpha) = -\cot \alpha$	$-\alpha$
$\sin 2\alpha = 2 \sin \alpha \cos \alpha$ $\cos 2\alpha = \cos^2 \alpha - \sin^2 \alpha = 1 - 2 \sin^2 \alpha = 2 \cos^2 \alpha - 1$	2α
$\sin(\alpha \pm \beta) = \sin \alpha \cos \beta \pm \sin \beta \cos \alpha$ $\cos(\alpha \pm \beta) = \cos \alpha \cos \beta \mp \sin \alpha \sin \beta$	$\alpha \pm \beta$

סכום והפרש של פונקציות:

$$\sin \alpha \pm \sin \beta = 2 \sin \left(\frac{\alpha \pm \beta}{2} \right) \cos \left(\frac{\alpha \mp \beta}{2} \right)$$

$$\cos \alpha + \cos \beta = 2 \cos \left(\frac{\alpha + \beta}{2} \right) \cos \left(\frac{\alpha - \beta}{2} \right)$$

$$\cos \alpha - \cos \beta = 2 \sin \left(\frac{\alpha + \beta}{2} \right) \sin \left(\frac{\alpha - \beta}{2} \right)$$

ערכים ששווה לזכור:

הזווית והפונקציה	0°	30°	45°	60°	90°
$\sin \alpha$	0	$\frac{1}{2}$	$\frac{1}{\sqrt{2}} = \frac{\sqrt{2}}{2}$	$\frac{\sqrt{3}}{2}$	1
$\cos \alpha$	1	$\frac{\sqrt{3}}{2}$	$\frac{1}{\sqrt{2}} = \frac{\sqrt{2}}{2}$	$\frac{1}{2}$	0
$\tan \alpha$	0	$\frac{1}{\sqrt{3}}$	1	$\sqrt{3}$	לא מוגדר

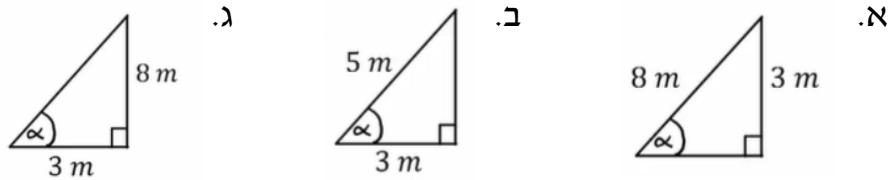
פתרונות עבור:

$x_1 = \alpha + 2\pi k$ $x_2 = \pi - \alpha + 2\pi k$	$\sin x = \sin \alpha$
$x_1 = \alpha + 2\pi k$ $x_2 = -\alpha + 2\pi k$	$\cos x = \cos \alpha$
$x = \alpha + \pi k$	$\tan x = \tan \alpha$

שאלות:

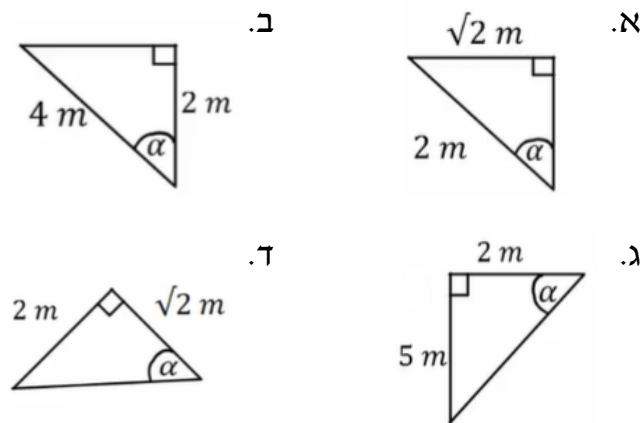
(1) דוגמה 1- חישוב אלפא

חשב את הזווית אלפא במקרים הבאים:



(2) דוגמה 2- משולשים שמסורטטים אחרת

חשב את הזווית אלפא במקרים הבאים:



(3) דוגמה 2- מציאת ניצבים



תשובות סופיות:

- (1) א. $\alpha = 22^\circ$ ב. $\alpha = 53^\circ$ ג. $\alpha = 69^\circ$
- (2) א. $\alpha = 45^\circ$ ב. $\alpha = 60^\circ$ ג. $\alpha = 68.2^\circ$ ד. $\alpha = 55^\circ$
- (3) א. $\sqrt{3m}$ ב. $2\sqrt{2m}$ ג. $\frac{5\sqrt{3m}}{2}$ ד. $1.53m$

נגזרות ואינטגרלים בסיסיים:

רקע

נגזרות:

הנגזרת נותנת את שיפוע המשיק לפונקציה בנקודה כלשהיא.

אם y היא פונקציה של x אז הסימון של הנגזרת של y לפי x הוא $\frac{dy}{dx}$ או y' .

נגזרת של פולינום:

$$y(x) = x^n \quad \rightarrow \quad y'(x) = nx^{n-1}$$

כפל בקבוע אפשר להוציא מהנגזרת:

$$(Ay(x))' = Ay'(x)$$

נגזרת של מכפלה:

$$y(x) = f(x)g(x) \quad \rightarrow \quad y'(x) = f'(x)g(x) + f(x)g'(x)$$

כלל שרשרת:

אם y היא פונקציה של x ו- x הוא פונקציה של t אז:

$$\frac{dy}{dt} = \frac{dy}{dx} \cdot \frac{dx}{dt}$$

נגזרות של פונקציות נוספות:

$$\frac{d}{dx} \left(\frac{1}{x} \right) = -\frac{1}{x^2} ; \quad \frac{d}{dx} (\sin x) = \cos x ; \quad \frac{d}{dx} (\cos x) = -\sin x$$

$$\frac{d}{dx} (e^x) = e^x ; \quad \frac{d}{dx} (\ln(x)) = \frac{1}{x}$$

אינטגרל:

פעולה הפוכה לנגזרת.

אינטגרל של פולינום

$$\int Ax^n dx = A \frac{x^{n+1}}{n+1}$$

אינטגרל לא מסוים, מוסיפים קבוע לתוצאת האינטגרל.

אינטגרל מסוים, מציבים גבולות בתוצאה של האינטגרל.

$$\int_a^b x^n dx = \frac{x^{n+1}}{n+1} \Big|_a^b = \frac{b^{n+1}}{n+1} - \frac{a^{n+1}}{n+1}$$

מה עושה האינטגרל?

האינטגרל מבצע סכימה על ערכי הפונקציה.

האינטגרל נותן את השטח מתחת לגרף הפונקציה.

שאלות:

1 דוגמה 1

חשב את הנגזרות הבאות:

א. $y = 5x^4, \frac{dy}{dx} = ?$

ב. $y = ax^5, \frac{dy}{dx} = ?$

ג. $y = 5x + 2x^{18}, \frac{dy}{dx} = ?$

ד. $f(x) = 8x^2 + 2, \frac{df}{dx} = ?$

ה. $y = 6t^2, \frac{dy}{dt} = ?$

ו. $x = 5t^3, \frac{dx}{dt} = ?$

ז. $x = 5t^4 + t^3 + 4, \frac{dx}{dt} = ?$

ח. $f(t) = At^6 + Bt + C, \frac{df}{dt} = ?$

2 דוגמה 2

חשב את הנגזרות הבאות:

א. $y = (5x^4 + 2)(5x + 2x^{18}), \frac{dy}{dx} = ?$

ב. $y = Ax^5(B + Cx^3), \frac{dy}{dx} = ?$

ג. $y = 5x + 2x^2(4x + 5x^5), \frac{dy}{dx} = ?$

ד. $y = (5t^2 + 1)(2t + 27 + 5t^3), \frac{dy}{dt} = ?$

ה. $x = (2t^3 + 7)(4t + 3 + 6t^2), \frac{dx}{dt} = ?$

3) דוגמה 3-נגזרת פנימית

חשב את הנגזרות הבאות:

א. $y = (x+2)^4$, $\frac{dy}{dx} = ?$

ב. $y = 5(8x^2 + x)^5$, $\frac{dy}{dx} = ?$

ג. $y = 5t + 2(5t^4 + 4)^{14}$, $\frac{dy}{dx} = ?$

ד. $f(t) = 8(5t^4 + t^3 + 4)^2 + 2$, $\frac{df}{dt} = ?$

4) דוגמה 4-כלל שרשרת

חשב את הנגזרות הבאות:

א. $y = (x+2)^4$, $x = 2t$, $\frac{dy}{dt} = ?$

ב. $y = 5(8x^2 + x)^5$, $x = 5t^4 + 4$, $\frac{dy}{dt} = ?$

ג. $y = 5x + 2(5x^4 + 4)^{14}$, $x = 3t^2 + t$, $\frac{dy}{dt} = ?$

ד. $y = x^2$, $x = t^2$, $\frac{dy}{dt} = ?$

5) דוגמה 5-נגזרות של פונקציות נוספות

מצאו את הנגזרות של הפונקציות הבאות:

א. $y = \sin(ax)$ כאשר a קבוע.

ב. $y = e^{-x^2}$

6) דוגמה 1-אינטגרלים בסיסיים

חשב את האינטגרלים הבאים:

א. $\int x^7 dx$

ב. $\int x dx$

ג. $\int dx$

ד. $\int 3 dx$

ה. $\int 7x^4 dx$

ו. $\int (5x^2 + 3) dx$

$$\int (8x^7 + 5x) dx \quad \text{ז.}$$

$$\int Ax^7 dx \quad \text{ח.}$$

$$\int (Ax^7 + Bx) dx \quad \text{ט.}$$

(7) דוגמה 2-אינטגרל מסוים
 חשב את האינטגרלים הבאים:

$$\int_0^2 x^5 dx \quad \text{א.}$$

$$\int_1^5 4 dx \quad \text{ב.}$$

$$\int_{-1}^3 7x^4 dx \quad \text{ג.}$$

$$\int_0^4 (2x^2 + 4) dx \quad \text{ד.}$$

$$\int_{-1}^2 (Ax^7 + Bx) dx \quad \text{ה.}$$

(8) דוגמה 3-אינטגרל של פונקציות נוספות
 חשב את האינטגרלים הבאים:

$$\int_0^\pi \sin x dx \quad \text{א.}$$

$$\int_0^\pi \cos(2x) dx \quad \text{ב.}$$

$$\int e^{3x} dx \quad \text{ג.}$$

$$\int_0^5 2e^{-3x} dx \quad \text{ד.}$$

$$\int_3^5 \frac{1}{x} dx \quad \text{ה.}$$

$$\int \frac{1}{x^2} dx \quad \text{ו.}$$

$$\int e^{ax} dx \quad \text{ז.}$$

תשובות סופיות:

- (1) א. $20x^3$ ב. $5a \cdot x^4$ ג. $5 + 36x^{17}$ ד. $16x$ ה. $12 \cdot t$
- א. $15t^2$ ב. $20t^3 + 3t^2$ ג. $6At^5 + B$ ד. $20x^3 \cdot (5x + 2x^{18}) + (5x^4 + 2)(5 + 36x^{17})$ ה. $5Ax^4(B + Cx^3) + 3ACx^7$
- (2) א. $5 + 4x \cdot (4x + 5x^5) + 2x^2(4 + 25x^4)$ ב. $(10t)(2t + 27 + 5t^3) + (5t^2 + 1)(2 + 0 + 15t^2)$ ג. $(6t^2 + 0)(4t + 3 + 6t^2) + (2t^3 + 7)(4 + 0 + 12t)$ ד. $5 + 560t^3(5t^4 + 4)^{13}$ ה. $25(8x^2 + x)^4(16x + 1)$
- (3) א. $4(x + 2)^3 \cdot 1$ ב. $16(5t^4 + t^3 + 4)(20t^3 + 3t^2)$ ג. $500t^3(8(5t^4 + 4)^2 + 5t^4 + 4) \cdot (16(5t^4 + 4) + 1)$ ד. $8(2t + 2)^3$
- (4) א. $(5 + 2 \cdot 14(5x^4 + 4)^{13} \cdot (5 \cdot 4x^3 + 0)) \cdot (3 + 2t + 1)$ ב. $4t^3$ ג. $e^{-x^2} \cdot (-2x)$ ד. $\cos(ax) \cdot a$
- (5) א. $\frac{x^8}{8} + C$ ב. $\frac{x^2}{2} + C$ ג. $x + C$ ד. $3x$ ה. $\frac{7x^5}{5} + C$
- (6) א. $x^8 + \frac{5}{2}x^2 + C$ ב. $A \cdot \frac{x^8}{8} + C$ ג. $A \frac{x^8}{8} + B \frac{x^2}{2} + C$ ד. $31.875A + 1.5B$ ה. 58.67
- (7) א. 2 ב. 0 ג. $\frac{e^{3x}}{3} + C$ ד. $\frac{2}{3}$ ה. $\ln\left(\frac{5}{3}\right)$
- (8) א. $-\frac{1}{x} + C$ ב. $\frac{e^{ax}}{a}$

צפיפות:

שאלות:

(1) דיסקה עם חור

- א. מצא את הצפיפות של דיסקה בעלת רדיוס R ומסה M ?
- ב. בדיסקה קדחו חור ברדיוס r .
מצא את המסה שהוצאה מהדיסקה.

תשובות סופיות:

$$(1) \quad \text{א. } \frac{M}{\pi R^2} \quad \text{ב. } M \left(\frac{r}{R} \right)^2$$

פיזיקה 1 להנדסת אלקטרוניקה ותכנה 3 שעות שבועיות

פרק 2 - וקטורים-

תוכן העניינים

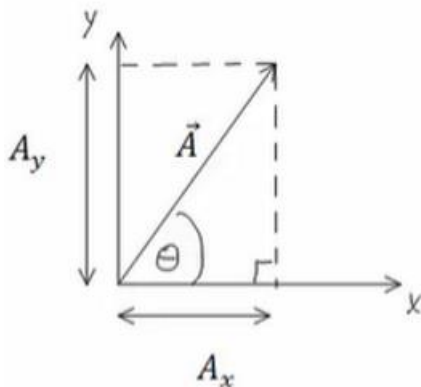
14	1. הגדרות ופעולות בסיסיות
18	2. מכפלה סקלרית
24	3. וקטור יחידה
26	4. וקטור בשלושה מימדים
29	5. -----
31	6. מכפלה וקטורית בשלושה מימדים
35	7. גרדיאנט ורוטור

הגדרות ופעולות בסיסיות:

רקע:

הצגת וקטור באמצעות גודל וכיוון נקראת הצגה פולרית.
 הצגת וקטור באמצעות רכיבי ה- x וה- y נקראת הצגה קרטזית.

פירוק וקטור לרכיבים:



היטל על ציר ה- x או רכיב ה- x של A :

$$A_x = |\vec{A}| \cos \theta$$

היטל על ציר ה- y או רכיב ה- y של A :

$$A_y = |\vec{A}| \sin \theta$$

$$\text{המעבר ההפוך: } |\vec{A}| = \sqrt{A_x^2 + A_y^2}, \quad \tan \theta = \frac{A_y}{A_x}$$

כפל בסקלר:

$$\vec{B} = \alpha \vec{A} = \alpha (A_x, A_y) = (\alpha A_x, \alpha A_y)$$

שאלות:

(1) חיבור וחיסור בקרטזי

נתונים שלושה וקטורים: $\vec{A}(1,3)$, $\vec{B}(4,2)$, $\vec{C}(3,5)$.

א. חשבו את: $\vec{A} + \vec{B} + \vec{C}$.

ב. חשבו את: $\vec{A} - \vec{B} - \vec{C}$.

ג. חשבו את: $2\vec{A} + 3\vec{B} - 4\vec{C}$.

(2) חיבור וקטורים בפולרי

נתונים שני וקטורים בהצגה הפולרית:

הוקטור \vec{A} שגודלו 10 והזווית שלו עם ציר ה- x היא 30° .

הוקטור \vec{B} שגודלו 8 והזווית שלו עם ציר ה- x היא 60° .

מצאו את $\vec{A} + \vec{B}$.

(3) עוד חיבור בפולרי

נתונים שני וקטורים:

הוקטור \vec{A} שגודלו 10 וכיוונו 30° ,

הוקטור \vec{B} שגודלו לא ידוע וכיוונו 350° .

מהו גודלו של הוקטור \vec{B} אם נתון שסכום הוקטורים ייתן וקטור ללא

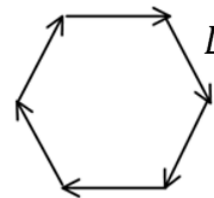
רכיב בציר ה- y ?

(4) משושה של וקטורים

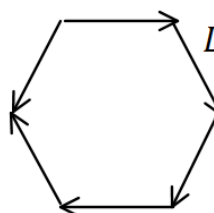
שישה וקטורים בגודל L כל אחד יוצרים משושה שווה צלעות.

מצאו את הוקטור השקול (גודל וכיוון) בכל אחד מהמקרים הבאים:

א.



ב.



(5) וקטור בין שתי נקודות

הוקטור \vec{A} הוא וקטור מהנקודה (x_1, y_1, z_1) אל הנקודה (x_2, y_2, z_2) .
 רשום ביטוי לרכיבים של הוקטור ומצא את גודלו.

(6) חיבור באמצעות מקבילית

נתונים הוקטורים \vec{A} ו- \vec{B} .

גודלו של A הוא 8 והזווית שלו עם ציר ה- x החיובי היא: $\theta_A = 130^\circ$.

גודלו של הוקטור B הוא 4 והזווית שלו עם ציר ה- x החיובי היא: $\theta_B = 60^\circ$.

שרטט את הוקטורים על מערכת צירים ומצא את $\vec{A} + \vec{B}$ באמצעות שיטת המקבילית.

(7) חיסור באמצעות מקבילית

נתונים הוקטורים \vec{A} ו- \vec{B} .

גודלו של A הוא 8 והזווית שלו עם ציר ה- x החיובי היא $\theta_A = 130^\circ$.

גודלו של הוקטור B הוא 4 והזווית שלו עם ציר ה- x החיובי היא $\theta_B = 60^\circ$.

שרטט את הוקטורים על מערכת צירים ומצא את $\vec{A} - \vec{B}$ באמצעות שיטת המקבילית.

(8) מציאת אורך של שקול

אורכם של שני וקטורים הוא 5 ו-10 ס"מ.

הזווית ביניהם היא 30 מעלות.

מהו אורכו של הוקטור השקול שלהם (סכום הוקטורים)?

(9) מציאת זווית בין שני וקטורים

נתונים שני וקטורים שאורכם 10 ו-13 מטר.

אורך השקול שלהם הוא 20 מטר.

מצא את הזווית בין הוקטורים.

תשובות סופיות:

$$(8,10) \text{ א. } (1) \quad (-6,-4) \text{ ב. } (2) \quad (2,-8) \text{ ג. } (3)$$

$$(12.7,11.9) \quad (2)$$

$$28.8 \quad (3)$$

$$L \cdot 4 \cos(30) \quad (4)$$

$$|\vec{A}| = \sqrt{(x_2 - x_1)^2 + (y_2 - y_1)^2 + (z_2 - z_1)^2}, \vec{A} = (x_2 - x_1, y_2 - y_1, z_2 - z_1) \quad (5)$$

$$C=10.1, \theta_c=108.1^\circ \quad (6)$$

$$C=7.62, \theta_c=159.5^\circ \quad (7)$$

$$|\vec{a}|=14.6\text{c.m} \quad (8)$$

$$\theta = 60^\circ \quad (9)$$

מכפלה סקלרית:

רקע:

שתי דרכים לביצוע המכפלה:

$$\vec{A} \cdot \vec{B} = A_x \cdot B_x + A_y \cdot B_y = |\vec{A}| \cdot |\vec{B}| \cdot \cos \alpha$$

α - זווית בין הוקטורים.

תכונות המכפלה:

- תוצאת המכפלה היא תמיד סקלר (ולא וקטור).

- מכפלה בין וקטורים מאונכים מתאפסת (זו דרך לבדוק האם וקטורים מאונכים)

- מכפלה סקלרית של וקטור בעצמו נותנת את גודל הוקטור בריבוע $\vec{A} \cdot \vec{A} = |\vec{A}|^2$

- פתיחת סוגרים והעלאה בריבוע:

$$\vec{A} \cdot (\vec{B} + \vec{C}) = \vec{A} \cdot \vec{B} + \vec{A} \cdot \vec{C}$$

$$(\vec{A} + \vec{B})^2 = |\vec{A}|^2 + 2\vec{A} \cdot \vec{B} + |\vec{B}|^2$$

$$\cos \alpha = \frac{A_x B_x + A_y B_y}{|\vec{A}| \cdot |\vec{B}|} = \frac{\vec{A} \cdot \vec{B}}{|\vec{A}| \cdot |\vec{B}|}$$

נוסחה למציאת זווית בין שני וקטורים:

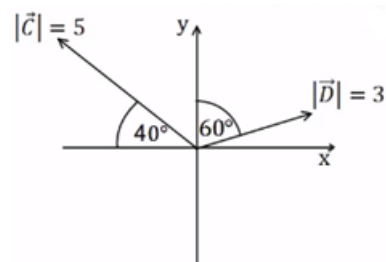
שאלות:

1) דוגמה 1

מצא את תוצאת המכפלה הסקלרית בין הוקטורים הנתונים בכל המקרים הבאים:

א. $\vec{A} = (-1, 2)$, $\vec{B} = (2, 2)$

ב.



2 דוגמה (2)

בדוק עבור זוגות הוקטורים הבאים האם הם מאונכים :

א. $\vec{A} = (1, 4)$, $\vec{B} = (-2, 5)$

ב. $\vec{A} = (1, 4)$, $\vec{B} = (8, -2)$

ג. $\vec{A} = (-1, -2)$, $\vec{B} = (-2, 1)$

ד. שרטט כל זוג וקטורים מאונכים על מערכת צירים, חשב את זוויות הוקטורים עם הצירים והראה שהזווית בין הוקטורים היא אכן 90° .

3 דוגמה (3)

נתונים הוקטורים הבאים : $\vec{A} = (-3, 1)$, $\vec{B} = (2, -4)$

א. מצא את תוצאת המכפלה הסקלרית באמצעות ההצגות הקרטזיות הנתונות.

ב. מצא את הגודל והזווית של כל וקטור.

ג. מצא את המכפלה הסקלרית שוב, הפעם באמצעות הנוסחה של מכפלת הגדלים בקוסינוס הזווית. בדוק כי התוצאה זהה לסעיף א'.

4 דוגמה (4)

נתונים הוקטורים הבאים : $\vec{A} = (-3, 1)$, $\vec{B} = (2, -4)$

א. הראה כי החישוב של $\vec{A} \cdot \vec{B}$ זהה לחישוב $\vec{B} \cdot \vec{A}$.

ב. הוכח בצורה כללית כי המכפלה הסקלרית היא פעולה קומוטטיבית. (הדרכה : רשום את הוקטורים בצורה כללית עם נעלמים).

5 דוגמה (5)

נתונים הוקטורים הבאים : $\vec{A} = (2, 1)$, $\vec{B} = (-3, 2)$, $\vec{C} = (1, -3)$

חשב את :

א. $\vec{A} \cdot \vec{C}$

ב. $(\vec{A} + \vec{B}) \cdot \vec{C}$

ג. $\vec{A} \cdot \vec{C} + \vec{B} \cdot \vec{C}$

ד. $(\vec{A} \cdot \vec{B}) \cdot \vec{C}$

ה. $\vec{A} \cdot (\vec{B} \cdot \vec{C})$

ו. $(\vec{A} \cdot \vec{B}) \cdot \vec{B}$

ז. $(\vec{A} \cdot \vec{B}) \cdot (\vec{B} \cdot \vec{C})$

6 דוגמה 6

נתונים הוקטורים הבאים : $\vec{A} = (-2, 2)$, $\vec{B} = (1, -3)$, $\vec{C} = (1, 5)$

חשב את :

$$\text{א. } \frac{(\vec{A} \cdot \vec{B})\vec{B}}{|\vec{B}|^2}$$

$$\text{ב. } \frac{(\vec{B} \cdot \vec{C})\vec{C}}{|\vec{C}|^2}$$

7 דוגמה 7

נתונים הוקטורים הבאים : $\vec{A} = (-2, 2)$, $\vec{B} = (1, -3)$, $\vec{C} = (1, 5)$

מצא את הזווית בין \vec{A} ל- \vec{B} לבין \vec{B} ל- \vec{C} .

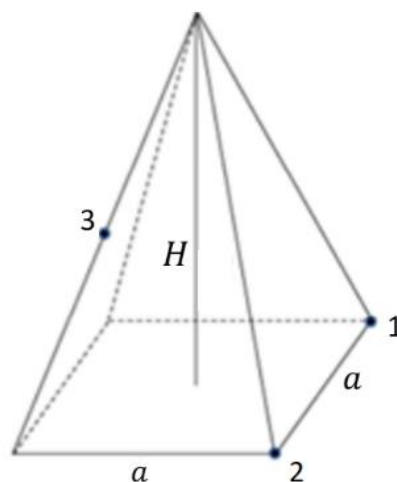
8 פירמידה משוכללת*

באיור מתוארת פירמידה משוכללת שבסיסה ריבוע בעל אורך צלע a וגובה $H = 2a$. נקודה 3 באיור נמצאת באמצע הצלע שבין הפינה לקודקוד. נגדיר שני ווקטורים :

הווקטור \vec{A} יוצא מנקודה 1 לנקודה 2.

הווקטור \vec{B} יוצא מנקודה 1 לנקודה 3.

מהי הזווית בין שני הווקטורים?



(9) הוכיחו את הזהויות

$$\vec{A} \cdot (\vec{B} + \vec{C}) = \vec{A} \cdot \vec{B} + \vec{A} \cdot \vec{C} \quad \text{הוכיחו כי:}$$

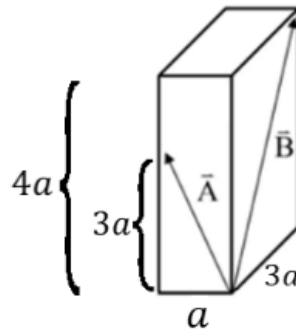
(10) היטלים של וקטורים בתוך תיבה

נתונה תיבה בעלת אורך צלעות: a , $3a$ ו- $4a$. נגדיר שני ווקטורים: \vec{A} ו- \vec{B} כמתואר באיור.

א. מהו היחס בין ההיטל של \vec{A} על הכיוון של \vec{B} (נסמנו - A_B) להיטל של \vec{B}

על הכיוון של \vec{A} (נסמנו - B_A), $\frac{A_B}{B_A}$?

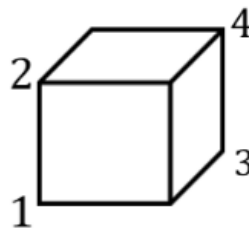
ב. חשבו את הזווית בין \vec{A} ל- \vec{B} .



(11) היטל של אלכסון על אלכסון בקובייה

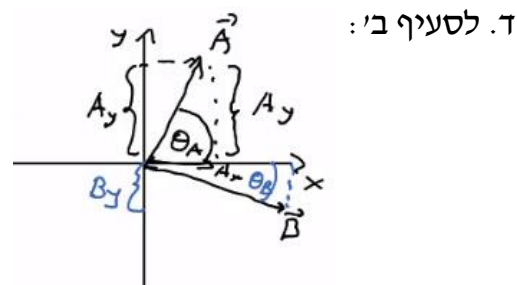
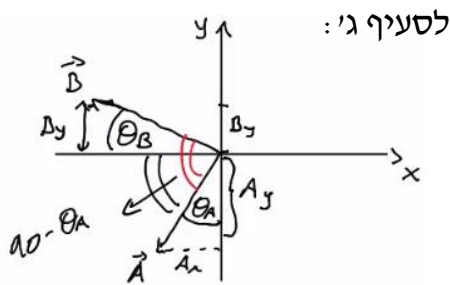
נתונה קובייה בעלת אורך צלע a , ראו איור.

מהו ההיטל של הווקטור המצביע מפינה 1 לפינה 4 על הציר המוגדר על ידי הכיוון מפינה 3 לפינה 2.



תשובות סופיות:

- (1) א. $\vec{A} \cdot \vec{B} = 2$ ב. $\vec{C} \cdot \vec{D} = -5.13$
- (2) א. \vec{A} לא מאונך ל- \vec{B} . ב. הוקטורים מאונכים. ג. הוקטורים מאונכים.



הזוויות: $\theta_A = 26.57^\circ, \theta_B = 26.57^\circ$.

הזוויות: $\theta_A = 75.96^\circ, \theta_B = 14.04^\circ$.

- (3) א. $\vec{A} \cdot \vec{B} = -10$ ב. $|\vec{B}| = \sqrt{20}, \theta_B = -63.43^\circ, |\vec{A}| = \sqrt{10}, \theta_A = 161.57^\circ$

ג. $\vec{A} \cdot \vec{B} = -10$

- (4) א. שאלת הוכחה. ב. שאלת הוכחה.

- (5) א. $\vec{A} \cdot \vec{C} = -1$ ב. $(\vec{A} + \vec{B}) \cdot \vec{C} = -10$ ג. $\vec{A} \cdot \vec{C} + \vec{B} \cdot \vec{C} = -10$

- ד. $(\vec{A} \cdot \vec{B}) \cdot \vec{C} = (-4, 12)$ ה. $\vec{A} \cdot (\vec{B} \cdot \vec{C}) = (-18, -9)$ ו. $(\vec{A} \cdot \vec{B}) \cdot \vec{B} = (12, -8)$

ז. $(\vec{A} \cdot \vec{B}) \cdot (\vec{B} \cdot \vec{C}) = 36$

- (6) א. $\frac{(\vec{A} \cdot \vec{B}) \vec{B}}{|\vec{B}|^2} = \left(\frac{-8}{10}, \frac{24}{10} \right)$ ב. $\frac{(\vec{B} \cdot \vec{C}) \vec{C}}{|\vec{C}|^2} = (-0.54, -2.69)$

(7) $\alpha_{BC}^{\vec{A}} = 150.26^\circ, \alpha_{AB}^{\vec{A}} = 153.43^\circ$

(8) 59°

(9) הוכחה בסרטון

(10) א. $\frac{\sqrt{10}}{5}$ ב. 40.6°

(11) $-\frac{a}{\sqrt{3}}$

וקטור יחידה:

רקע:

$$\hat{A} = \frac{\vec{A}}{|\vec{A}|}$$

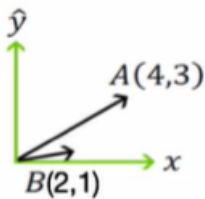
שאלות:

(1) דוגמה וקטור יחידה

מצא וקטורי יחידה בכיוון של הוקטורים הבאים:

א. $\vec{A} = (-2, -3)$

ב. $\vec{B} = (3, 4)$



(2) הטלת וקטור יחידה על וקטור יחידה

נתון הוקטור \vec{A} שבשרטוט.

א. מהו היטל הוקטור על ציר ה- x (וקטור יחידה)?

ב. מהו היטל הוקטור על ציר ה- y (וקטור יחידה)?

ג. הסבר כיצד מחשבים היטל הוקטור על הוקטור $\vec{B}(2,1)$.

ד. הסבר במילים את משמעות ההטלה של וקטור על וקטור.

(3) וקטור בזמן

נתון הוקטור $\vec{A}(t)$ במישור דו מימדי כך ש- $|\vec{A}(t)| = A_0 \sin(t)$

ו- $\theta(t) = t$ כאשר $t \in [0, \pi]$ ו- A_0 קבוע.

א. מצא את הרכיבים הקרטזיים של $\vec{A}(t)$ כתלות בזמן.

ב. מצא את $\frac{d\vec{A}}{dt}$.

ג. מצא את $\frac{d|\vec{A}|}{dt}$.

תשובות סופיות:

$$(1) \quad \hat{A} = (-0.55, -0.83) \text{ א.} \quad \hat{B} = (0.6, 0.8) \text{ ב.}$$

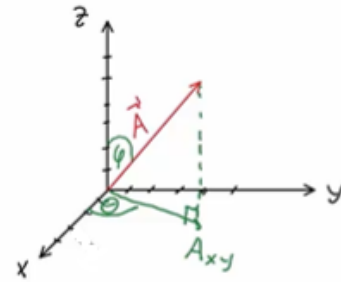
$$(2) \quad \dot{A}_{\hat{x}} = (4, 0) \text{ א.} \quad \dot{A}_{\hat{y}} = (0, 3) \text{ ב.} \quad \text{ג. ראה סרטון}$$

$$(3) \quad A_x(t) = \frac{1}{2} A_0 \sin 2t, \quad A_y(t) = A_0 \sin^2 t \text{ א.} \quad A_0 (\cos 2t\hat{x} + \sin 2t\hat{y}) \text{ ב.}$$

$$\text{ג.} \quad -\sin t\hat{x} + \cos t\hat{y}$$

וקטור בשלושה מימדים:

רקע:



$$0 \leq \varphi \leq \pi$$

$$0 \leq \theta \leq 2\pi$$

מציאת גודל הוקטור: $|\vec{A}| = \sqrt{A_x^2 + A_y^2 + A_z^2}$

פירוק לרכיבים:

$$A_z = |\vec{A}| \cos \varphi$$

$$A_{xy} = |\vec{A}| \sin \varphi$$

$$A_x = |\vec{A}| \sin \varphi \cos \theta$$

$$A_y = |\vec{A}| \sin \varphi \sin \theta$$

שאלות:

1 חישוב וקטור יחידה

נתון הוקטור: $\vec{A}(2,3,4)$.

א. מהו גודלו של הוקטור?

ב. מהו וקטור היחידה של הוקטור \vec{A} ?

2 חישוב גודל זווית בקרטזי

נתונים שני וקטורים: $\vec{A}(1,5,10)$, $\vec{B}(3,4,5)$.

א. מהו גודלו של כל וקטור?

ב. מהי הזווית בין שני הוקטורים?

3 מציאת שקול זווית עם הצירים

שני כוחות נתונים פועלים על גוף: $\vec{A}(1,4,5)$, $\vec{B}(3,6,7)$.

א. מהו הכוח השקול?

ב. מהו גודלו של הכוח השקול?

ג. מהי הזווית בין הכוח השקול ובין כל אחד מהצירים?

4 וקטור בזווית 30 עם ציר Y - ספיר אפיק מעבר

אילו מהווקטורים הבאים נמצא בזווית של 30° מציר y?

$$\vec{A} = \left(\frac{1}{3}, \frac{1}{\sqrt{2}}, \frac{1}{\sqrt{3}} \right) \quad \vec{B} = \left(\frac{1}{\sqrt{2}}, \frac{1}{2}, 1 \right) \quad \vec{C} = \left(\frac{1}{\sqrt{2}}, \sqrt{3}, \frac{1}{\sqrt{2}} \right)$$

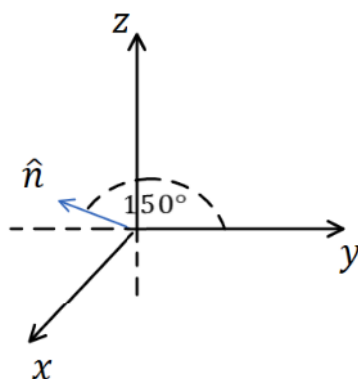
5 היטל של A על 150 מעלות מציר y

נתון הוקטור: $\vec{A} = \hat{x} + \sqrt{3}\hat{y} + 6\hat{z}$.מהו ההיטל של הוקטור \vec{A} על ציר \hat{n}

הנמצא במישור y-z וכיוונו החיובי

מסובב בזווית של 150° מציר y נגד

כיוון השעון?



(6) שהסכום מאונך להפרש הוכח- אם סכום של שני וקטורים מאונך להפרשם אזי אורכם שווה.

(7) מציאת וקטור מאונך נתונים 2 וקטורים: $\vec{A}(1,4,8)$, $\vec{B}(B_x, B_y, 0)$. מצא את מרכיבי וקטור B אם נתון כי הוא ניצב לוקטור A וגודלו 10.

תשובות סופיות:

$$(1) \quad \text{א. } |A| = \sqrt{29} \quad \text{ב. } \hat{A} = \left(\frac{2}{\sqrt{29}}, \frac{3}{\sqrt{29}}, \frac{4}{\sqrt{29}} \right)$$

$$(2) \quad \text{א. } |\vec{A}| = \sqrt{126}, |\vec{B}| = \sqrt{50} \quad \text{ב. } \alpha = 23^\circ$$

$$(3) \quad \text{א. } \vec{C} = (4, 10, 12) \quad \text{ב. } |C| = \sqrt{260} \quad \text{ג. } \alpha = 75.63, \beta = 51.67, \gamma = 41.90$$

(4) הוקטור C.

(5) 1.5

(6) שאלת הוכחה.

$$(7) \quad \vec{B} = \left(-4, \sqrt{\frac{100}{17}}, \sqrt{\frac{100}{17}}, 0 \right)$$

מכפלה וקטורית בדרך מימד:

רקע:

$$\vec{A} \times \vec{B} = (A_x B_y - A_y B_x) \hat{z}$$

הערות:

התוצאה של המכפלה הוקטורית היא תמיד וקטור (בניגוד לסקלרית).

נוסחה נוספת לגודל של המכפלה הוקטורית:

$$|\vec{A} \times \vec{B}| = |\vec{A}| \cdot |\vec{B}| \sin \alpha$$

α - זווית הקטנה בין \vec{A} ל- \vec{B} .

שאלות:

(1) דוגמה-מכפלה וקטורית

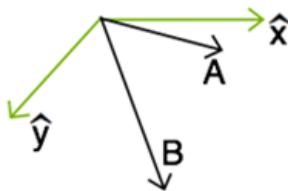
נתונים הוקטורים הבאים: $\vec{A} = (-4, 1)$, $\vec{B} = (2, -3)$.

א. חשב את $\vec{A} \times \vec{B}$ באמצעות ההצגות הקרטזיות הנתונות. מהו גודל המכפלה?

ב. מצא את הגודל והזווית של כל וקטור.

ג. חשב את $|\vec{A} \times \vec{B}|$ שוב, הפעם באמצעות הנוסחה של מכפלת הגדלים

בסינוס הזווית. (בדוק כי התוצאה זהה לסעיף א).



(2) מכפלה סקלרית ווקטורית בפולרי

נתונה מערכת צירים כבשרטוט.

נתונים שני וקטורים:

גודל 10, זווית 20° - \vec{A} .

גודל 15, זווית 60° - \vec{B} .

א. חשב $A \cdot B$ (מכפלה סקלרית).

ב. חשב $A \times B$ (מכפלה וקטורית).

ג. הסבר מדוע המכפלה הוקטורית נותנת את שטח המקבילית שיוצרים הווקטורים.

תשובות סופיות:

$$(1) \quad \vec{A} \times \vec{B} = 10\hat{z} \quad \text{וכן} \quad |\vec{A} \times \vec{B}| = 10$$

$$(2) \quad \vec{A} \cdot \vec{B} = 150 \cdot \cos(40) \quad \text{א.} \quad \vec{A} \cdot \vec{B} = -150 \cdot \sin(40) \cdot \hat{z} \quad \text{ב.} \quad \text{ג.} \quad |\vec{A} \times \vec{B}| = 10$$

$$\text{ב.} \quad |\vec{A}| = \sqrt{17}, \theta_A = 165.96^\circ, |\vec{B}| = \sqrt{13}, \theta_B = -56.31^\circ$$

$$\text{ג.} \quad \text{ראה סרטון.}$$

מכפלה וקטורית בשלושה מימדים:

רקע:

שתי דרכים לביצוע המכפלה:

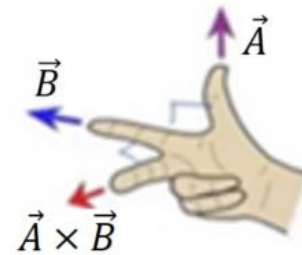
דרך 1 – דטרמיננטה:

$$\vec{A} \times \vec{B} = \begin{vmatrix} \hat{x} & \hat{y} & \hat{z} \\ A_x & A_y & A_z \\ B_x & B_y & B_z \end{vmatrix}$$

דרך 2 – לפי גודל וכיוון בנפרד:

$$|\vec{A} \times \vec{B}| = |\vec{A}||\vec{B}|\sin \alpha$$

כיוון לפי כלל יד ימין -



יש כמה דרכים לבצע את הכלל, אם מחליפים אצבעות לכל שלושת הוקטורים הכלל נשאר נכון (אם מחליפים מקום רק לשני וקטורים – טעות).

דרך נוספת לכלל יד ימין נקראת כלל הבורג

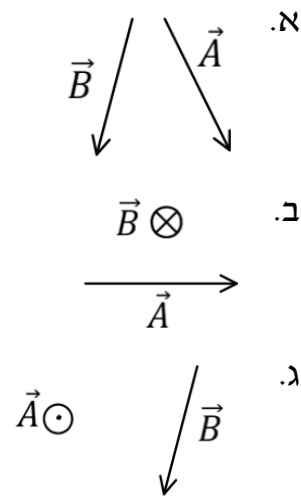


מסובבים את האצבעות מ- \vec{A} ל- \vec{B} והתוצאה בכיוון האגודל.

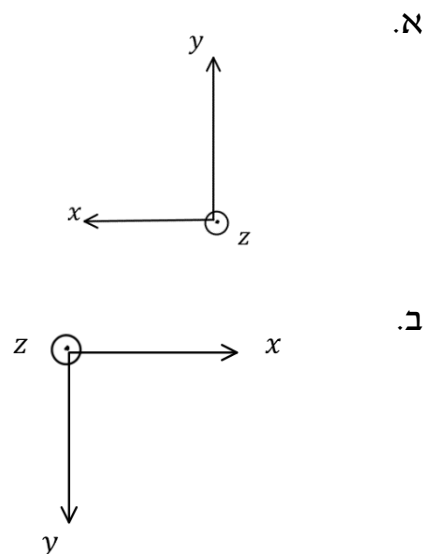
שאלות:

- (1) דוגמה - דטרמיננטה
 נתונים הוקטורים הבאים :
 $\vec{A}(-1,2,-2)$, $\vec{B}(2,0,1)$
 חשבו את $\vec{A} \times \vec{B}$.

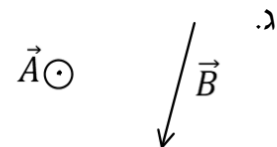
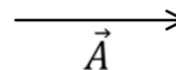
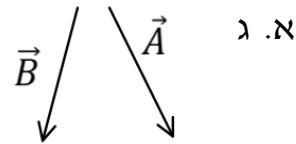
- (2) דוגמה - כלל יד ימין
 מצאו את $\vec{A} \times \vec{B}$ במקרים הבאים :



- (3) דוגמה - מערכות צירים
 בדקו האם המערכות הבאות הן ימניות או שמאליות :



(4) דוגמה - כלל הבורג

מצאו את $\vec{A} \times \vec{B}$ באמצעות כלל הבורג:

(5) מקבילון

נתונים הוקטורים הבאים: $\vec{a} = 2\hat{x} - 3\hat{y} + \hat{z}$, $\vec{b} = \hat{x} + 2\hat{y} - \hat{z}$, $\vec{c} = 2\hat{x} - \hat{y}$ מרכיבים מהוקטורים \vec{a} ו- \vec{b} מקבילית ובוחרים את ראשית הצירים בקודקוד המקבילית (הנח כל היחידות בס"מ).

א. מצאו את מיקומו של הקודקוד שמול הקודקוד שבראשית הצירים.

ב. מצאו את אורכי האלכסונים של המקבילית.

ג. מצאו את שטח המקבילית.

ד. יוצרים מקבילון על ידי הוספת הוקטור \vec{c} למקבילית.

חשבו את גובה המקבילון המאונך למקבילית.

רמז: השתמש ב- $(\vec{a} \times \vec{b}) \cdot \vec{c}$.

תשובות סופיות:

(1) $2\hat{x} - 3\hat{y} - 4\hat{z}$


(2) א. לתוך הדף

(3) א. שמאלית


(4) א. לתוך הדף

(5) א. $\vec{r}_1 = (3, -1, 0)$

ד. $\tilde{h} = 0.13\text{c.m}$



ב. למעלה



ב. שמאלית

ב. למעלה

ג. $|\vec{a} \times \vec{b}| = \sqrt{59}\text{c.m}^2$

ב. $|\vec{r}_1| = \sqrt{10}$, $|\vec{r}_2| = \sqrt{30}$

גרדיאנט ורוטור:

רקע:

גרדיאנט בקואורדינטות השונות:

$$\vec{\nabla} f = \frac{\partial f}{\partial x} \hat{x} + \frac{\partial f}{\partial y} \hat{y} + \frac{\partial f}{\partial z} \hat{z} : \text{גרדיאנט בקואורדינטות קרטזיות}$$

$$\vec{\nabla} f = \frac{\partial f}{\partial r} \hat{r} + \frac{1}{r} \frac{\partial f}{\partial \theta} \hat{\theta} + \frac{\partial f}{\partial z} \hat{z} : \text{גרדיאנט בקואורדינטות גליליות}$$

$$\vec{\nabla} f = \frac{\partial f}{\partial r} \hat{r} + \frac{1}{r \sin \varphi} \frac{\partial f}{\partial \theta} \hat{\theta} + \frac{1}{r} \frac{\partial f}{\partial \varphi} \hat{\varphi} : (*) \text{ גרדיאנט בקואורדינטות כדוריות}$$

(*) שימו לב שהזווית φ היא עם ציר ה- z והזווית θ עם ציר x .

רוטור (Rot/Curl) בקואורדינטות השונות:

בקרטזיות:

$$\vec{\nabla} \times \vec{F} = \begin{vmatrix} \hat{x} & \hat{y} & \hat{z} \\ \frac{\partial}{\partial x} & \frac{\partial}{\partial y} & \frac{\partial}{\partial z} \\ F_x & F_y & F_z \end{vmatrix} = \left(\frac{\partial F_z}{\partial y} - \frac{\partial F_y}{\partial z} \right) \hat{x} - \left(\frac{\partial F_z}{\partial x} - \frac{\partial F_x}{\partial z} \right) \hat{y} + \left(\frac{\partial F_y}{\partial x} - \frac{\partial F_x}{\partial y} \right) \hat{z}$$

בגליליות:

$$\vec{\nabla} \times \vec{F} = \left(\frac{1}{r} \frac{\partial F_z}{\partial \theta} - \frac{\partial F_\theta}{\partial z} \right) \hat{r} + \left(\frac{\partial F_r}{\partial z} - \frac{\partial F_z}{\partial r} \right) \hat{\theta} + \frac{1}{r} \left(\frac{\partial (r F_\theta)}{\partial r} - \frac{\partial F_r}{\partial \theta} \right) \hat{z}$$

בכדוריות (*):

$$\vec{\nabla} \times \vec{F} = \frac{1}{r \sin \varphi} \left(\frac{\partial}{\partial \varphi} (F_\theta \sin \varphi) - \frac{\partial F_\varphi}{\partial \theta} \right) \hat{r} + \frac{1}{r} \left(\frac{\partial}{\partial r} (r F_\varphi) - \frac{\partial F_r}{\partial \varphi} \right) \hat{\theta} + \frac{1}{r} \left(\frac{1}{\sin \varphi} \frac{\partial F_r}{\partial \theta} - \frac{\partial}{\partial r} (r \cdot F_\theta) \right) \hat{\varphi}$$

(*) שימו לב שהזווית φ היא עם ציר ה- z והזווית θ עם ציר x .

שאלות:

(1) חישוב גרדיאנט

$$f(\vec{r}) = f(x, y, z) = \frac{z}{(x^2 + y^2 + z^2)^{\frac{1}{2}}} : f \text{ נתונה פונקציית המיקום}$$

חשב את הגרדיאנט של הפונקציה f .

(2) חישוב השיפוע בכיוון השונה

חשב את גודל השיפוע של הפונקציה: $f(x, y) = 2x^2y$ בנקודה (1,2)

$$\hat{n} = \left(\frac{1}{\sqrt{2}}, -\frac{1}{\sqrt{2}} \right) : \text{בכיוון}$$

תשובות סופיות:

$$\vec{D}f = \frac{-xz\hat{x} - yz\hat{y} + (x^2 + y^2)\hat{z}}{(x^2 + y^2 + z^2)^{\frac{3}{2}}} \quad (1)$$

$$\vec{\nabla}f \cdot \hat{n} = \frac{8}{\sqrt{2}} + -\frac{2}{\sqrt{2}} \quad (2)$$

פיזיקה 1 להנדסת אלקטרוניקה ותכנה 3 שעות שבועיות

פרק 3 - קינמטיקה - תנועה במישור (מהמכינה)

תוכן העניינים

1. תנועה במישור 37

תנועה במישור:

שאלות:

(1) דוגמה 1

גוף נע במישור, כך שמיקומו בציר ה- x כתלות בזמן הוא: $x(t) = 2t$,

ומיקומו בציר ה- y כתלות בזמן הוא: $y(t) = 3t^2$.

- שרטט על גבי מערכת צירים דו מימדית את מיקום הגוף ב- $t = 0, 1, 2, 3$ sec.
- רשום את הערך של וקטור מיקום הגוף בכל אחד מן הרגעים, ושרטט את וקטור המיקום בכל רגע על מערכת הצירים.
- רשום נוסחה לוקטור המיקום כתלות בזמן.

(2) דוגמה 2

גוף נע במישור, כך שמיקומו בציר ה- x כתלות בזמן הוא: $x(t) = 4 + 3t$,

ומיקומו בציר ה- y כתלות בזמן הוא: $y(t) = 2t^2$.

- רשום את וקטור המיקום כתלות בזמן ומצא את מיקום הגוף ב- $t = 1, 2$ sec.
- רשום את ההעתק של הגוף בחמש השניות הראשונות של התנועה.
- מצא את ההעתק שביצע הגוף מ- $t = 2$ sec עד $t = 4$ sec.

(3) דוגמה 3

גוף נע במישור, כך שמיקומו כתלות בזמן בציר ה- x הוא: $x(t) = 2t - 3$,

ומיקומו בציר ה- y כתלות בזמן הוא: $y(t) = t^2$.

- מצא את וקטור המיקום של הגוף כתלות בזמן.
- מצא את ההעתק שביצע הגוף בין $t = 3$ sec ל- $t = 5$ sec.
- מצא את המהירות הממוצעת במרווח הזמן של סעיף ב'.

(4) גוף נזרק אופקית מגובה רב

גוף נזרק אופקית במהירות של 10 מטר לשניה מגובה רב. מה יהיו מיקומו, ביחס לנקודת הזריקה, ומהירותו, לאחר 4 שניות?

(5) גוף נזרק אופקית מגג בניין

גוף נזרק אופקית מגג בניין שגובהו 40 מטר.

א. מתי יפגע הגוף בקרקע?

ב. היכן יפגע הגוף בקרקע אם מהירות הזריקה היא 15 מטר לשנייה?

ג. מהו גודל מהירות הגוף בזמן הפגיעה בקרקע ומהי כיוונה?

(6) חבילת סיוע לכפר


מטוס טס במהירות קבועה של 200 מטר לשנייה בגובה של 3000 מטר. המטוס רוצה לשחרר חבילת סיוע לכפר הנמצא מתחתיו.

א. מצא את המרחק האופקי מהכפר שבו צריך

המטוס לשחרר את החבילה על מנת שתנחת

בדיוק 10 מטר לפני הכפר.

ב. מהי הזווית בה רואה המטוס את הכפר באותו רגע?

**(7) משוואת מסלול**

מצא את משוואת המסלול ושרטט את המסלול על מערכת צירים עבור המסלול

$$\text{הבא: } x(t) = \sqrt{3+t^2}, y(t) = \sqrt{7-t^2}$$

הנח ש- x ו- y תמיד חיוביים.

(8) זריקה משופעת

גוף נזרק במהירות של 40 מטר לשנייה בזווית של 30 מעלות ביחס לציר האופקי.

א. מצא את מיקום ומהירות הגוף ב- $t = 2\text{sec}$.

ב. מתי פוגע הגוף בקרקע?

ג. מהו המרחק האופקי בו פוגע הגוף בקרקע?

ד. מהי מהירות הגוף ברגע הפגיעה?

(9) כדור נבעט מגבעה

כדור נבעט מגבעה בגובה 20 מטר. הכדור נבעט

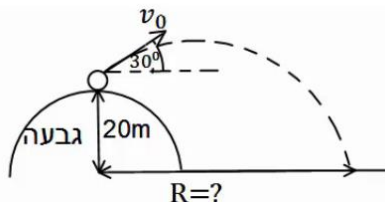
במהירות של 28 מטר לשנייה ובזווית של 30 מעלות.

א. מתי יפגע הכדור בקרקע?

ב. מהו המרחק האופקי של הכדור, מנקודת

הבעיטה, ברגע הפגיעה בקרקע?

ג. מהי מהירות הכדור ברגע הפגיעה?

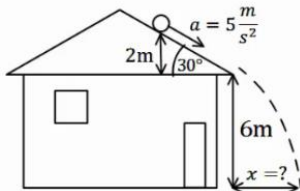


**10) דן יורה חץ על עץ**

דן יורה חץ מגובה של 2 מטרים לעבר עץ הנמצא במרחק של 8 מטרים. מהירות היציאה של החץ מהקשת היא 30 מטר לשנייה. מצא באיזה גובה יפגע החץ בעץ, אם הזווית שבה יורה דן את החץ היא 15 מעלות.

11) דני מחליק במגלשה

דני מחליק במגלשת מים. סוף המגלשה נמצא בגובה 2 מטרים מעל הבריכה ובזווית של 30 מעלות מתחת לאופק. בהנחה שדני יוצא מהמגלשה במהירות של 10 מטרים לשנייה, מהו המרחק האופקי אותו יעבור עד הפגיעה במים? מהי מהירותו בפגיעה במים?

**12) כדור מתגלגל מגג משופע**

כדור מתגלגל מגג בניין משופע. הכדור מתחיל תנועתו ממנוחה מגובה של 2 מטרים מקצה הגג, ששיפועו הוא 30 מעלות מתחת לאופק. נתון כי תאוצת הכדור בכיוון תנועתו על הגג היא 5 מטרים לשנייה בריבוע. מצא את המרחק האופקי מקצה הגג בו יפגע הכדור בקרקע.

13) תנועת כדור עם רוח נגדית

כדור נבעט מהקרקע במהירות של 20 מטרים לשנייה ובזווית של 45 מעלות מהקרקע. רוח נגדית גורמת לכדור תאוצה בכיוון האופקי של 2 מטרים לשנייה בריבוע (בנוסף לתאוצת הכובד).

א. מצא את מיקום הכדור ומהירותו ב- $t = 2\text{sec}$.

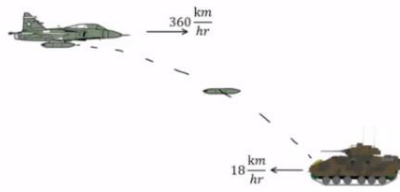
ב. מהו המרחק בו פוגע הכדור בקרקע?

ג. מהו הגובה המקסימלי אליו הגיע הכדור?

ד. מהו המרחק האופקי המקסימלי אליו הגיע הכדור?

14) מסירה בפוטבול

במשחק הפוטבול הרכז האחורי זורק כדור בזווית של 45 מעלות ביחס לקרקע ובמהירות של 30 מטרים לשנייה. שחקן הקבוצה הנמצא 15 מטרים קדימה מהרכז האחורי רץ במהירות של 5 מטרים לשנייה. השחקן רואה את הכדור ומתחיל להאיץ בתאוצה קבועה. מהי התאוצה הדרושה לשחקן כך שיוכל לתפוס את הכדור בדיוק בגובה בו הוא נזרק? האם סימן התאוצה יכול להיות שלילי? מה המשמעות של תאוצה כזו?

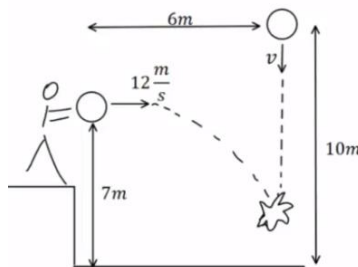
(15) מטוס מטיל פצצה על טנק שנע

מטוס טס בכיוון אופקי במהירות של 360 km/hr קמ"ש. טנק אויב הנמצא במרחק אופקי של 3 km ממנו נע במהירות 18 km/hr קמ"ש כלפי המטוס. כעבור 10 שניות הטייס מבחין בטנק ומשחרר פצצה.

א. חשבו את הזמן מהרגע שבו שוחררה הפצצה ועד לרגע פגיעתה בטנק.

ב. מהו גובה המטוס מעל פני הקרקע?

ג. מהי מהירות הפצצה (גודל וכיוון) ברגע פגיעתה בטנק?

(16) כדור נזרק אופקית פוגע בכדור שנזרק אנכית

כדור נזרק אנכית כלפי מטה מגובה של 10 מטרים ובמהירות v לא ידועה. באותו הרגע ובמרחק אופקי של 6 מטרים נזרק כדור נוסף זריקה אופקית, מגובה 7 מטרים ובמהירות של 12 m/s מטר לשניה.

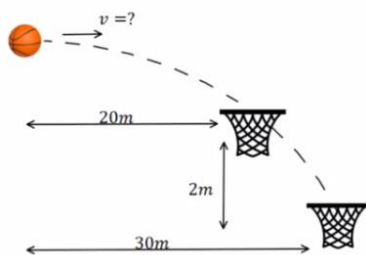
הכדורים מתנגשים באוויר בגובה לא ידוע.

א. מהו הזמן בו הכדורים מתנגשים?

ב. מהי המהירות בה נזרק הכדור הראשון?

ג. מהו הגובה שבו נפגשים הכדורים?

ד. מהי מהירות הכדור השני ברגע פגיעתו בכדור הראשון (גודל וכיוון)?

(17) כדורסל עובר דרך שני סלים

כדורסל נזרק אופקית במהירות התחלתית לא ידועה ובגובה לא ידוע. הכדור עובר דרך שני סלים (ניתן להניח שהסלים ללא רשת והכדור לא פוגע בטבעת כך שהמעבר דרך הסלים לא משנה את המסלול). הסל הראשון ממוקם 20 מטר מנקודת הזריקה של הכדור והסל השני 30 מטר מנקודת הזריקה של הכדור ו- 2 מטר מתחת לסל הראשון.

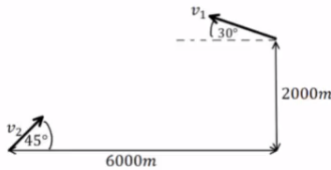
א. מהי המהירות ההתחלתית של הכדור?

ב. מאיזה גובה מעל לסל העליון נזרק הכדור?

ג. כמה זמן חלף מהרגע בו נזרק הכדור ועד לרגע בו הגיע לסל השני?

18) כיפת ברזל מיירת קאסם

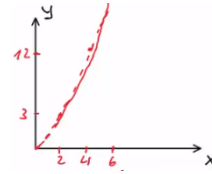
טייל קאסם נורה לעבר עמדה של כיפת ברזל. המכ"ם של הכיפה מזהה את הטייל כשהוא נמצא בגובה 2000 מטר ובמרחק אופקי של 6000 מטר ממוקום של עמדת הכיפה. ברגע הגילוי לטייל זווית של 30 מעלות עם האופק. המחשב של כיפת ברזל מתריע כי לפי חישוב המסלול של הטייל הוא הולך לפגוע ישירות בעמדה. הנח שטייל הקאסם נע ללא מנוע (כלומר, כמו פגז בתנועה בליסטית).



- א. מהי מהירות הטייל ברגע הגילוי?
 ברגע הגילוי נורה טייל מיירט לעבר טייל הקאסם.
 הטייל המיירט נורה בזווית של 45 מעלות.
- ב. מה צריכה להיות מהירותו ההתחלתית של הטייל המיירט בשביל שיפגע בטייל הקאסם (הנח שתנועת הטייל המיירט היא גם ללא מנוע)?
- ג. מתי מתרחשת הפגיעה?
- ד. באיזה גובה מתרחשת הפגיעה?

תשובות סופיות:

(1) א.



ב. $\vec{r}_0(t=0) = (0, 0)$, $\vec{r}_1(t=1) = (2, 3)$, $\vec{r}_2(t=2) = (4, 12)$, $\vec{r}_3(t=3) = (6, 27)$

ג. $\vec{r} = (2t, 3t^2) = 2t\hat{x} + 3t^2\hat{y}$

(2) א. הנוסחה: $\vec{r}(t) = (4+3t, 2t^2)$, מיקום הגוף: $\vec{r}(t=1) = (7, 2)$, $\vec{r}(t=2) = (10, 8)$

ב. $\Delta\vec{r} = (15, 50)$ ג. $\Delta\vec{r} = (6, 24)$

(3) א. $\vec{r} = (2t-3)\hat{x} + t^2\hat{y}$ ב. $\Delta\vec{r} = (4, 16)$ ג. $\vec{v} = (2, 8)$

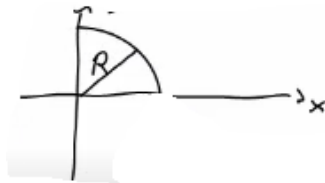
(4) מיקום: $\vec{r}(t=4) = (40, 80)$, מהירות: $\vec{v}(t=4) = (10, 40)$

(5) א. $t = \sqrt{8} \approx 2.83 \text{ sec}$ ב. $x(t = \sqrt{8}) = 15 \cdot \sqrt{8} \approx 42.43 \text{ m}$

ג. גודל: $|\vec{v}| \approx 32.02 \frac{\text{m}}{\text{sec}}$, כיוון: $\theta \approx 62.06^\circ$

(6) א. $4,908.98 \text{ m}$ ב. $\theta = 31.38^\circ$

(7) משוואה: $y(x) = \sqrt{10-x^2}$, שרטוט:



(8) א. מיקום: $x(t=2) = 69.28 \text{ m}$, $y(t=2) = 20 \text{ m}$, מהירות: $\vec{v} = (34.64, 0)$

ב. $t = 4 \text{ sec}$ ג. $x(t=4) = 138.56 \text{ m}$ ד. $\vec{v} = (34.64, -20)$

(9) א. $t \approx 3.84 \text{ sec}$ ב. $x(t=3.84) = 93.12 \text{ m}$ ג. $\vec{v} = (24.25, -24.4)$

(10) $y(t=0.28) \approx 3.78$

(11) המרחק: $x(t) = 2.68 \text{ m}$, המהירות: $\vec{v} = (8.66, 8.1)$

(12) $x(t=0.82) \approx 4.49 \text{ m}$

(13) א. מיקום: $x(t=2) = 24.28 \text{ m}$, $y(t=2) = 8.28 \text{ m}$

מהירות: $v_x(t=2) = 10.14 \frac{\text{m}}{\text{sec}}$, $v_y(t=2) = -5.86 \frac{\text{m}}{\text{sec}}$ ב. $x(t=2.83) \approx 32.01 \text{ m}$

ג. $y(t=1.41) \approx 10 \text{ m}$ ד. $x_{\text{max}} = 32.01 \text{ m}$

(14) התאוצה: $a \approx 5.99 \frac{\text{m}}{\text{sec}^2}$, כן, יכול להיות שלילי. המשמעות היא תאוצה,

כלומר על השחקן להאט על מנת לתפוס את הכדור בדיוק בגובה הזריקה.

(15) א. $t \approx 18.57 \text{sec}$ ב. $h \approx 1724 \text{m}$ ג. $211 \frac{\text{m}}{\text{sec}}$, -61.7°

(16) א. $t = 0.5 \text{sec}$ ב. $v = 6 \frac{\text{m}}{\text{sec}}$ ג. 5.75m

ד. $13 \frac{\text{m}}{\text{sec}}$, -22.6°

(17) א. $v = \sqrt{1250} \frac{\text{m}}{\text{sec}}$ ב. $h = 1.6 \text{m}$ ג. $t_2 \approx 0.849 \text{sec}$

(18) א. $v_1 \approx 210 \frac{\text{m}}{\text{sec}}$ ב. $v_2 \approx 353 \frac{\text{m}}{\text{sec}}$ ג. $t_0 \approx 13.9 \text{sec}$ ד. 2493m

פיזיקה 1 להנדסת אלקטרוניקה ותכנה

3 שעות שבועיות

פרק 4 - קינמטיקה -

תוכן העניינים

1. תנועה בקו ישר (מימד אחד) 44
2. ----- (ללא ספר) 44
3. ----- (ללא ספר) 44
4. תנועה במישור וזריקה משופעת (בליסטיקה) 55
5. משוואת מסלול 59
6. תאוצה נורמלית ומשיקית ורדיוס עקמומיות 60
7. תרגילים נוספים 63

תנועה בקו ישר (מימד אחד):

רקע:

הגדרות:

$$v(t) = \frac{dx}{dt} = \dot{x} \text{ - מהירות רגעית}$$

$$\bar{v} = \frac{\Delta x}{\Delta t} = \frac{x_f - x_i}{t_f - t_i} \text{ - מהירות ממוצעת}$$

$$a = \frac{dv}{dt} = \dot{v} = \frac{d^2x}{dt^2} = \ddot{x} \text{ - תאוצה רגעית}$$

$$\bar{a} = \frac{\Delta v}{\Delta t} = \frac{v_f - v_i}{t_f - t_i} \text{ - תאוצה ממוצעת}$$

קשרים הפוכים:

$$x(t) = \int v(t) dt$$

$$v(t) = \int a(t) dt$$

את האינטגרל אפשר לעשות לא מסוים (בלי גבולות) ואז צריך להוסיף קבוע או מסוים (עם גבולות)

מיקום ומהירות כתלות בזמן בתאוצה קבועה:

$$x(t) = x_0 + v_0 \cdot t + \frac{1}{2}at^2$$

$$v(t) = v_0 + at$$

שטח מתחת לגרף הפונקציה:

- השטח מתחת לגרף הפונקציה של המהירות (כתלות בזמן) שווה להעתק (כאשר שטח מתח לציר הזמן מחושב כשלילי, אם מחשבים אותו כחיובי אז מקבלים את הדרך)

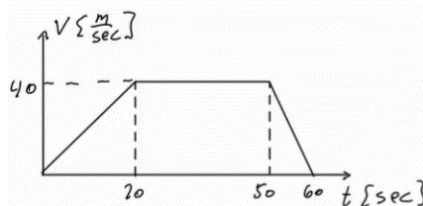
- השטח מתחת לגרף של התאוצה (כתלות בזמן) הוא שינוי המהירות (שטח מתחת לציר הזמן מחושב כשלילי)

שאלות:

- (1) **דני ודנה רצים זה לקראת זה**
 דני ודנה רצים זה לקראת זה.
 שניהם מתחילים לרוץ ממנוחה.
 דני רץ בתאוצה של 0.5 מטר לשנייה בריבוע ודנה בתאוצה של 1 מטר לשנייה בריבוע.
 המרחק ההתחלתי ביניהם הוא 50 מטר.
 א. מתי והיכן יפגשו דני ודנה?
 ב. מה מהירות כל אחד מהם ברגע המפגש?

- (2) **דני שכח את הפלאפון**
 דני רץ בקו ישר במהירות קבועה שגודלה 14 מטר לשנייה.
 ברגע מסוים מבחין יוסי כי דני שכח את הפלאפון שלו.
 באותו הרגע נמצא דני כבר במרחק של 64 מטר מיוסי.
 יוסי מתחיל לרוץ אחר דני ממנוחה בתאוצה קבועה של 8 מטר לשנייה בריבוע.
 א. מצא ביטוי למהירות כתלות בזמן עבור דני ויוסי.
 שרטט גרפים עבור שני הביטויים שמצאת על אותה מערכת צירים.
 ב. מתי מהירותו של יוסי שווה לזו של דני? האם הוא משיג את דני ברגע זה?
 ג. מצא ביטוי למיקום כתלות בזמן עבור דני ויוסי.
 שרטט גרפים עבור שני הביטויים שמצאת על אותה מערכת צירים.
 ד. מתי ישיג יוסי את דני? כמה מרחק עבר יוסי עד אז?

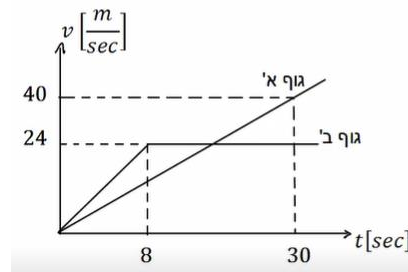
- (3) **גרף של מהירות אופנוע בזמן**
 בגרף הבא נתונה מהירותו של אופנוע כתלות בזמן. האופנוע נע על קו ישר.
 קבע את ראשית הצירים במיקום ההתחלתי של האופנוע.



- א. תאר את סוג התנועה של האופנוע בכל אחד מקטעי התנועה.
 ב. מצא את תאוצת האופנוע כתלות בזמן.
 ג. מהי מהירות האופנוע ברגעים: $t = 15, 40, 55$?
 ד. מצא את מיקום האופנוע באותם רגעים של סעיף ג'.

4) גרף מהירויות של שני גופים

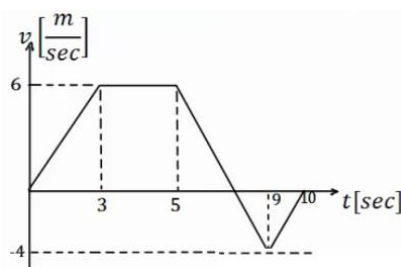
בגרף הבא מתוארות המהירויות של שני גופים כתלות בזמן. הנח ששני הגופים נעים לאורך קו ישר ויוצאים מהראשית.



- תאר את תנועתו של כל גוף.
- רשום נוסחת מקום זמן לכל גוף.
- מצא את המרחק בין הגופים ברגעים: $t = 3s$, $24s$ וציין מי מקדים את מי.
- מתי מהירויות שני הגופים שוות?
- מתי מיקום שני הגופים זהה?

5) תרגיל עם הכל

- הגרף הבא מתאר את מהירותו של גוף הנע בקו ישר. הנח שהגוף מתחיל את תנועתו מהראשית. הגוף נע במשך 10 שניות ונעצר.
- תאר את התנועה של הגוף במילים.
 - שרטט גרף של התאוצה כתלות בזמן של הגוף.
 - מתי נמצא הגוף במרחק הגדול ביותר (בכיוון החיובי) מהראשית? מהו מרחק זה?
 - מהו המרחק הכולל שעבר הגוף?
 - מהו ההעתק הכולל שעשה הגוף?
 - מהי המהירות הממוצעת של הגוף בתנועה?
 - מהו מרחק הגוף מהראשית ב- $t = 6 \text{ sec}$?
 - מתי נמצא הגוף במרחק 12 מטרים מהראשית?
 - שרטט גרף של מיקומו של הגוף כתלות בזמן, אין צורך לסמן ערכים בציר האנכי של הגרף.



(6) תפוח עץ

- תפוח נופל מעץ בגובה 15 מטרים.
 (הנח שהתפוח נופל ממנוחה והזנח את התנגדות האוויר).
 א. מצא את המהירות בה יפגע התפוח בקרקע.
 ב. מצא את המהירות בה יפגע התפוח בראשו של ניטון היושב מתחת לעץ.
 הנח שגובה הראש של ניטון בישיבה הוא אחד מטר.

(7) חסידה מביאה חבילה

- חסידה מרחפת במנוחה באוויר ומפילה חבילה מגובה של 320 מטרים.
 א. מצא את ההעתק שמבצעת החבילה בשנייה הרביעית של תנועתה.
 ב. מצא את ההעתק שמבצעת החבילה בשנייה האחרונה של תנועתה.

(8) דני זורק כדור מחלון גבוה

- דני זורק כדור כלפי מעלה מחלון בביתו הנמצא בגובה 105 מטרים מעל הקרקע (בניין גבוה). מהירות הכדור ישר אחרי הזריקה היא 20 מטר לשנייה.
 סמן את כיוון הציר החיובי כלפי מעלה ואת ראשית הצירים בנקודת הזריקה.
 א. רשום נוסחאות מקום זמן ומהירות זמן עבור הכדור.
 ב. הכן טבלה ורשום בטבלה את הערכים של המיקום והמהירות ב-6 השניות הראשונות.
 ג. צייר את מיקום הכדור בכל שנייה ב-6 השניות.
 ד. מתי יפגע הכדור בקרקע?
 ה. חזור על סעיפים א' ו-ד' במקרה שבו ראשית הצירים בקרקע.

(9) גוף נזרק אנכית מגג בניין

- גוף נזרק אנכית כלפי מעלה מגג בניין שגובהו 40 מטר.
 מהירותו ההתחלתית של הגוף היא 30 מטר לשנייה.
 בחר ציר y שראשיתו בקרקע וכיוונו החיובי כלפי מעלה.
 א. רשום את פונקציית המקום-זמן, מהירות-זמן ותאוצה-זמן של הגוף.
 ב. ערוך טבלה של מהירותו ומיקומו בזמנים: $t = 0, 1, 2, 3, 4, 5 \text{ sec}$.
 ג. שרטט גרפים עבור שלושת הפונקציות שחישבת בסעיף א'.

10) כדור נזרק מלמעלה וגוף נזרק מלמטה

- כדור נזרק כלפי מטה מראש בניין שגובהו 80 מטר.
 מהירותו ההתחלתית של הכדור היא 15 מטר לשנייה.
 באותו הרגע נזרק גוף שני מתחתית הבניין כלפי מעלה.
 מהירותו ההתחלתית של הגוף השני היא 40 מטר לשנייה.
- רשום נוסחת מקום-זמן עבור כל גוף.
 - האם הגוף השני יעבור את גובה הבניין?
 - היכן ביחס לרצפת הבניין יחלפו הגופים אחד ליד השני?
 - רשום נוסחת מהירות-זמן לכל גוף.
 - מה תהיה מהירות כל גוף ברגע המפגש?
 - מהי מהירות הפגיעה בקרקע של כל גוף?
 - שרטט גרף מהירות-זמן וגרף מיקום זמן לכל גוף.

11) מהירות כנגזרת של פולינום

- גוף נע בקו ישר ומיקומו כתלות בזמן נתון לפי: $x(t) = 2t^3 - 12t + 30$
 כאשר הזמן בשניות והמיקום במטרים.
- מצאו את המהירות כתלות בזמן.
 - מתי הגוף נעצר?

12) תנועה בקו ישר, מהירות כנגזרת

- מיקומו של גוף הנע בקו ישר נתון לפי: $x(t) = 32te^{-t}$.
- מצא את הזמן בו הגוף נעצר.
 - מצא את מרחק הגוף ברגע זה מהראשית.

13) תנועה בקו ישר, מהירות כנגזרת ותאוצה

- גוף נע בקו ישר ומיקומו כתלות בזמן נתון לפי: $x(t) = -2t^3 + 6t + 3$
 כאשר הזמן בשניות והמיקום במטרים.
- מצאו את המהירות כתלות בזמן ואת הרגע בו הגוף נעצר.
 - מהו המרחק המקסימאלי אליו הגיע הגוף?
 - מהי תאוצת הגוף?

(14) תאוצה מפוצלת

גוף נקודתי מתחיל לנוע ממנוחה ונע בקו ישר.

$$a(t) = \begin{cases} t \left[\frac{\text{m}}{\text{sec}^2} \right], & 0 \leq t \leq 3 [\text{sec}] \\ 5 - t \left[\frac{\text{m}}{\text{sec}^2} \right], & 3 < t [\text{sec}] \end{cases}$$

תאוצת הגוף תלויה בזמן ונתונה לפי:

תנועת הגוף נמשכת עד לרגע בו הוא עוצר.

- מהי מהירות הגוף בזמן?
- מהי המהירות המרבית של הגוף במהלך התנועה?
- מתי עוצר הגוף?
- איזה מרחק (העתק) הוא עובר עד לעצירה?

(15) מהירות מינימלית

גוף נע בקו ישר ומיקומו כתלות בזמן נתון לפי: $x(t) = at^3 - \beta t^2 + \gamma t$.
 כל היחידות סטנדרטיות (מיקום במטר וזמן בשניות).

- מהן היחידות של α , β , γ ?
- מהו מיקום הגוף ב- $t = 0$?
- מצאו את המהירות ההתחלתית של הגוף.
- מצאו מהי התאוצה ההתחלתית של הגוף.
- חשבו את המהירות המינימלית של הגוף כפונקציה של הקבועים β ו- γ ומוצאו מה התנאי שצריכים למלא הקבועים על מנת שאכן תהיה מהירות מינימלית.

(16) ילד זורק כדור בקפיצה*

ילד מנסה לזרוק כדור לתקרה של הכיתה אך אינו מצליח להגיע עד לתקרה. המורה לפיזיקה שהבחין בניסיונותיו של הילד הציע לו שיזרוק את הכדור תוך כדי קפיצה בכיוון מעלה.

- האם המורה צודק? לאיזה גובה יגיע הכדור אם הילד קופץ ומיד זורק את הכדור כלפי מעלה? הניחו שמהירות הקפיצה של הילד היא v_1 ומהירות הזריקה של הכדור v_2 ביחס לילד היא אותו הדבר. הניחו שזריקת הכדור לא משפיעה על הילד.
- בטאו את ההעתק של הילד ושל הכדור כפונקציה של הזמן בו הילד זורק את הכדור.

(17) זמן מינימלי לסיים מסלול*

מכונית יכולה להאיץ מאפס ל-100 קמ"ש תוך 10 שניות, כאשר ניתן להניח שקצב ההאצה קבוע. אותה מכונית יכולה לבלום בקצב של 0.5g. מהו הזמן המינימלי לעבור מסלול של 3 ק"מ אם המכונית מתחילה ממנוחה ומסיימת בעצירה מוחלטת? (רמז: השתמש בגרף מהירות זמן).

(18) כמה זמן הרכבת נסעה במהירות קבועה*

רכבת יוצאת מיישוב א' אל יישוב ב'. בשליש הראשון של הדרך הרכבת מאיצה בתאוצה קבועה. בשליש השני של הדרך הרכבת נוסעת במהירות קבועה. בשליש האחרון של הדרך הרכבת מאטה בקצב קבוע עד לעצירתה ביישוב ב'. זמן הנסיעה הכולל הוא T. כמה זמן נסעה הרכבת במהירות קבועה?

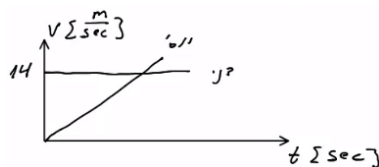
(19) אדם משחרר כדור מתוך מעלית*

מעלית עולה מגובה הקרקע במהירות קבועה. בזמן T_1 , אדם הנמצא במעלית משחרר כדור מתוך המעלית דרך חור שברצפת המעלית. הכדור מגיע לקרקע כעבור T_2 שניות. מצאו את גובה המעלית h בזמן T_1 . נתונים T_1 ו- T_2 .

תשובות סופיות:

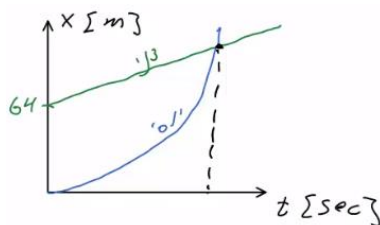
1. א. הזמן: $t = 8.16 \text{ sec}$, המיקום: 16.65 m .

ב. $V_{\text{Dana}}(t = 8.16) = -8.16 \frac{\text{m}}{\text{sec}}$, $V_{\text{Dani}}(t = 8.16) = 4.08 \frac{\text{m}}{\text{sec}}$.



2. א. דני - $V(t) = 14 \frac{\text{m}}{\text{sec}}$, יוסי - $V(t) = 8t$. גרף:

ב. $t = 1.75 \text{ sec}$, לא.



ג. דני - $x(t) = 64 + 14t$, יוסי - $x(t) = 4t^2$. גרף:

ד. ב- $t = 6.12$, המרחק: 149.82 m .

3. א. כאשר $0 \leq t \leq 20$ (חלק I), התאוצה חיובית וקבועה, והמיקום הולך וגדל.
כאשר $20 \leq t \leq 50$ (חלק II), המהירות קבועה (אין תאוצה) והמיקום גדל.
כאשר $50 \leq t \leq 60$ (חלק III), התאוצה קבועה ושלילית והמיקום הולך וגדל.

$$a = \begin{cases} 2 \frac{\text{m}}{\text{sec}^2} & 0 < t < 20 \\ 0 & 20 < t < 50 \\ -4 \frac{\text{m}}{\text{sec}^2} & 50 < t < 60 \end{cases} \text{ ב.}$$

ג. $V(t = 15) = 30 \frac{\text{m}}{\text{sec}}$, $V(t = 40) = 40 \frac{\text{m}}{\text{sec}}$, $V(t = 55) = 20 \frac{\text{m}}{\text{sec}}$.

ד. $x(t = 15) = 225 \text{ m}$, $x(t = 40) = 1,200 \text{ m}$, $x(t = 55) = 1,750 \text{ m}$.

4. א. גוף א': תנועה בתאוצה קבועה, האצה. ההתקדמות בכיוון חיובי.

גוף ב': כאשר $0 < t < 8$, כמו גוף א'. כאשר $t \geq 8$,

תנועה במהירות קבועה בכיוון חיובי.

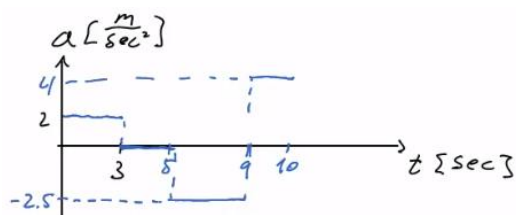
ב. גוף א': $\frac{2}{3}t^2$, גוף ב': כאשר $0 \leq t \leq 8$, כמו גוף א'.

כאשר $8 \leq t < \infty$, $x(t) = 96 + 24(t - 8)$.

ג. כש- $\Delta x(t = 3) = 7.5 \text{ m}$, וכש- $\Delta x(t = 24) = 96 \text{ m}$. גוף ב' מקדים את א'.

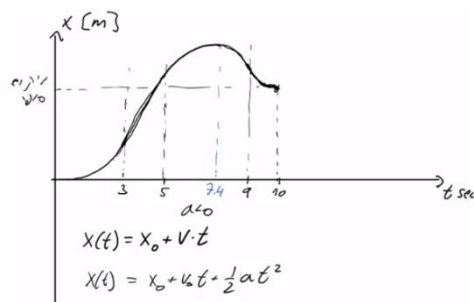
ד. $t = 18 \text{ sec}$ ה. כש- $t = 31.42 \text{ sec}$.

- 5) א. כאשר $0 \leq t \leq 3$ (חלק I), תאוצה קבועה, האצה והתקדמות בכיוון החיובי.
 כאשר $3 \leq t \leq 5$ (חלק II), תנועה במהירות קבועה, התקדמות בכיוון החיובי.
 כאשר $5 \leq t \leq 9$ (חלק III), תאוצה קבועה שלילית.
 תאוצה עד אשר המהירות מתאפסת, ואז מתחילה האצה בכיוון הנגדי.
 התקדמות בכיוון החיובי עד שהמהירות מתאפסת ואז מתחילים לחזור בכיוון הנגדי.
 כאשר $9 \leq t \leq 10$, תאוצה קבועה חיובית, תאוטה. התקדמות בכיוון הנגדי.



גרף:
$$a = \begin{cases} 2 \frac{m}{sec^2} & 0 < t < 3 \\ 0 & 3 < t < 5 \\ -2.5 \frac{m}{sec^2} & 5 < t < 9 \\ 4 \frac{m}{sec^2} & 9 < t < 10 \end{cases}$$
 ב.

- ג. בזמן: 7.4 sec, המרחק: 28.2m. ד. $S = 33.4m$. ה. $\Delta x = 23m$. ו. $\bar{v} = 2.3 \frac{m}{sec}$. ז. $\Delta x = x(t=6) = 25.75m$. ח. $t = 3.5sec$.

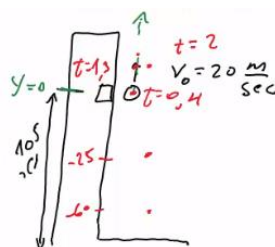


6) א. $17.32 \frac{m}{sec}$ ב. $v_F \approx 16.73$

7) א. 80m ב. $40 \frac{m}{sec}$

8) א. מקום-זמן: $y(t) = 20t - 5t^2$, $v(t) = 20 - 10t$

- ב. ג. ד. 7 sec



זמן (שניות)	מיקום (מטר)	מהירות (מטר לשנייה)
1	15	10
2	20	0
3	15	-10
4	0	-20
5	-25	-30
6	-60	-40

ה. (א) מקום-זמן: $y(t) = 105 + 20t - 5t^2$. מהירות-זמן: $v(t) = 20 - 10t$.

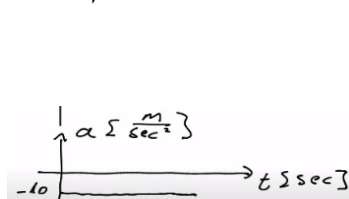
(ד) 7 sec

9 א. מקום-זמן: $y(t) = 40 + 30t - 5t^2$, מהירות-זמן: $v(t) = 30 - 10t$,
תאוצה-זמן: $a = -10$

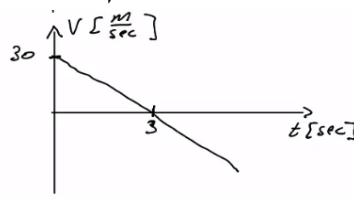
ב.

זמן (שניות)	מקום (מטר)	מהירות (מטר לשנייה)
0	40	30
1	65	20
2	80	10
3	85	0
4	80	-10
5	65	-20

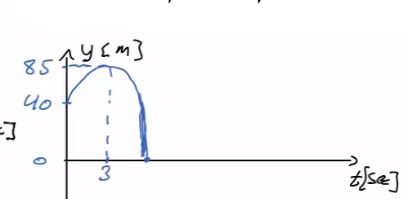
תאוצה-זמן:



מהירות-זמן:



ג. מקום-זמן:



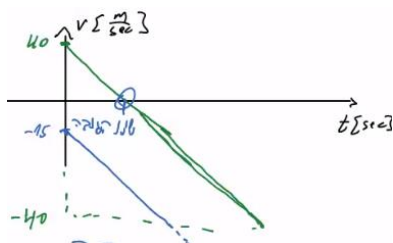
10 א. גוף 1 - כדור: $y_1(t) = 80 + (-15)t - 5t^2$, גוף 2 - ריבוע: $y_2(t) = 40t - 5t^2$

ב. יגיע בדיוק לגובהו. ג. 47.74m. ד. גוף 1: $v_1(t) = -15 - 10t$

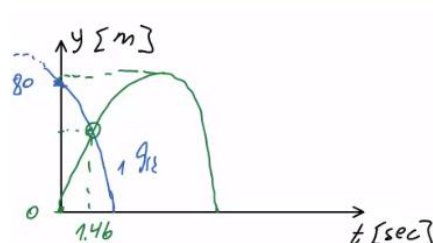
גוף 2: $v_2(t) = 40 - 10t$. ה. גוף 1: $-29.6 \frac{m}{sec}$, גוף 2: $25.4 \frac{m}{sec}$

ו. גוף 1: $-42.72 \frac{m}{sec}$, גוף 2: $-40 \frac{m}{sec}$

מהירות-זמן:



ז. מיקום-זמן: (גוף 1 בכחול, גוף 2 בירוק)



א. $v = 6t^2 - 12$ ב. $t = \sqrt{2} \text{ sec}$ 11

א. $t = 1 \text{ sec}$ ב. $x(t=1) = \frac{32}{e}$ 12

א. $t = 1 \text{ sec}$, $v(t) = -6t^2 + 6$ ב. $X_{\max} = 7 \text{ m}$ ג. $a = -12t$ 13

$$V_{\max} = 6.5 \frac{\text{m}}{\text{sec}} \quad \text{ב.}$$

$$V(t) = \begin{cases} \frac{t^2}{2} \left(\frac{\text{m}}{\text{sec}} \right) & 0 \leq t \leq 3 \\ \left(5t - \frac{t^2}{2} - 6 \right) \left(\frac{\text{m}}{\text{sec}} \right) & 3 \leq t \end{cases} \quad \text{א. (14)}$$

$$\Delta x \approx 31.79\text{m} \quad \text{ד.} \quad t_2 \approx 8.61 \quad \text{ג.}$$

$$[\alpha] = \frac{\text{m}}{\text{sec}^3}, \quad [\beta] = \frac{\text{m}}{\text{sec}^2}, \quad [\gamma] = \frac{\text{m}}{\text{sec}} \quad \text{א. (15)}$$

$$-\frac{\beta^2}{3\alpha} + \gamma, \quad \alpha > 0 \quad \text{ה.} \quad -2\beta \quad \text{ד.}$$

$$\frac{(v_1 + v_2)^2}{2g} - v_2 t_0 : \text{כדור}, \quad \frac{v_1^2}{2g} : \text{ב. ילד} \quad \text{א. (16)}$$

$$T \approx 58\text{sec} \quad \text{(17)}$$

$$t_2 = \frac{T}{5} \quad \text{(18)}$$

$$h = \frac{gT_2^2}{2 \left(1 + \frac{T_2}{T_1} \right)} \quad \text{(19)}$$

תנועה במישור וזריקה משופעת:

רקע:

וקטור המיקום - $\vec{r} = x\hat{x} + y\hat{y} + z\hat{z}$.

וקטור ההעתק - $\Delta\vec{r} = \vec{r}_2 - \vec{r}_1$.

וקטור המהירות הממוצעת (velocity) - $\bar{\vec{v}} = \frac{\Delta\vec{r}}{\Delta t}$.

וקטור המהירות הרגעית (velocity) - $\vec{v} = \frac{d\vec{r}}{dt}$.

וקטור התאוצה הממוצעת - $\bar{\vec{a}} = \frac{\Delta\vec{v}}{\Delta t}$.

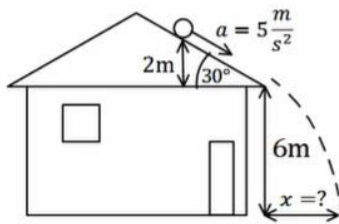
וקטור התאוצה הרגעית - $\vec{a}(t) = \frac{d\vec{v}}{dt}$.

גודל המהירות (Speed) - $|\vec{v}| = \frac{dS}{dt}$, כאשר S זה הדרך.

שאלות:

1) דוגמה - דן יורה חץ על עץ

דן יורה חץ מגובה של 2 מטרים לעבר עץ הנמצא במרחק של 8 מטרים. מהירות היציאה של החץ מהקשת היא 30 מטר לשנייה. מצא באיזה גובה יפגע החץ בעץ אם הזווית שבה יורה דן את החץ היא 15 מעלות?



2) כדור מתגלגל מגג משופע

כדור מתגלגל מגג בניין משופע. הכדור מתחיל תנועתו ממנוחה מגובה של 2 מטרים מקצה הגג. שיפוע הגג הוא 30 מעלות מתחת לאופק. נתון כי תאוצת הכדור בכיוון תנועתו על הגג היא 5 מטרים לשנייה בריבוע. גובה קצה הגג מעל הקרקע הוא 6 מטרים. מצא את המרחק האופקי מקצה הגג בו יפגע הכדור בקרקע.

3) תנועת כדור עם רוח נגדית

כדור נבעט מהקרקע במהירות של 20 מטרים לשנייה ובזווית של 45 מעלות מהקרקע. רוח נגדית גורמת לכדור תאוצה בכיוון האופקי של 2 מטרים לשנייה בריבוע (בנוסף לתאוצת הכובד).

- מצא את מיקום הכדור ומהירותו ב- $t = 2 \text{ sec}$.
- מהו המרחק בו פוגע הכדור בקרקע?
- מהו הגובה המקסימאלי אליו הגיע הכדור?
- מהו המרחק האופקי המקסימאלי אליו הגיע הכדור?

4) מסירה בפוטבול

במשחק הפוטבול הרכז האחורי זורק כדור בזווית של 45 מעלות ביחס לקרקע ובמהירות של 30 מטרים לשנייה. שחקן הקבוצה הנמצא 15 מטרים קדימה מהרכז האחורי רץ במהירות של 5 מטרים לשנייה. השחקן רואה את הכדור ומתחיל להאיץ בתאוצה קבועה. מהי התאוצה הדרושה לשחקן כך שיוכל לתפוס את הכדור בדיוק בגובה בו הוא נזרק? האם סימן התאוצה יכול להיות שלילי? מה המשמעות של תאוצה זו?

(5) דוגמה מהירות ממוצעת

מיקומו של גוף כתלות בזמן הוא: $\vec{r}(t) = 3t^2x + (2t+1)y$. מצא את המהירות הממוצעת ב-5 השניות הראשונות של התנועה.

(6) דוגמה - מהירות רגעית

מיקומו של גוף כתלות בזמן הוא: $\vec{r}(t) = 3t^3x + (4t-5)y$.
 א. מצא את מהירות הגוף כתלות בזמן.
 ב. מהי מהירות הגוף ב- $t = 2$?

(7) דוגמה - תאוצה

מהירותו של גוף כתלות בזמן היא: $\vec{v}(t) = 2t^3x + (6t-5)y$.
 א. מצא את תאוצת הגוף כתלות בזמן.
 ב. מהי התאוצה הממוצעת בחמש השניות הראשונות של התנועה?

(8) דרך והעתק

מיקומו של גוף לפי הזמן נתון לפי: $\vec{r}(t) = 2t^3x + (t^3 - 2)y$.
 א. מצא את המהירות הרגעית (velocity) והתאוצה הרגעית כפונקציה של הזמן.
 ב. מצא את גודל המהירות (speed) כתלות בזמן.
 ג. מצא את הדרך שעשה הגוף בחמש השניות הראשונות.
 ד. מצא את המהירות הממוצעת (average velocity) ב-5 השניות הראשונות של התנועה.
 ה. מצא את ה-speed הממוצע של הגוף בחמש השניות הראשונות.

תשובות סופיות:

(1) 3.78m

(2) 4.49m

(3) א. $V_y = -5.86 \frac{\text{m}}{\text{sec}}$, $V_x = 10.14 \frac{\text{m}}{\text{sec}}$, $y = 8.28\text{m}$, $x = 24.28\text{m}$ ב. 32.01m

ג. 10m ד. $x_{\text{max}} = 32.01$

(4) $a = 5.99 \frac{\text{m}}{\text{sec}^2}$, יכול לצאת שלילי, המשמעות שהשחקן צריך להאט בשביל להגיע

לנקודה הזאת בדיוק יחד עם הכדור.

(5) $\vec{V} = (15, 2)$

(6) א. $\vec{V} = 9t^2 \hat{x} + 4 \hat{y}$ ב. $\vec{V}(t=2) = (36, 4)$

(7) א. $\vec{a}(t) = 6t^2 \hat{x} + 6 \hat{y}$ ב. $\vec{a} = 50 \hat{x} + 6 \hat{y}$

(8) א. $\vec{V}_{(t)} = 6t^2 \hat{x} + 3t^2 \hat{y}$ ב. $|\vec{V}| = \sqrt{45}t^2$ ג. $S \approx 279.5\text{m}$

ד. $\vec{V} = 50 \hat{x} + 25 \hat{y}$ ה. $|\vec{V}| \approx 55.9 \frac{\text{m}}{\text{sec}}$

משוואת מסלול:

רקע:

משוואת מסלול היא פונקציה מהצורה $y(x)$, סרטוט של הפונקציה הוא המסלול של הגוף במישור. ניתן למצא את המשוואה באמצעות בידוד משתנה הזמן מהפונקציה $x(t)$ והצבה ב $y(t)$.

שאלות:

(1) דוגמה-משוואת מסלול

מצא את משוואת המסלול ושרטט את המסלול על מערכת צירים עבור

$$x(t) = \sqrt{3+t^2}, \quad y(t) = \sqrt{7-t^2}$$

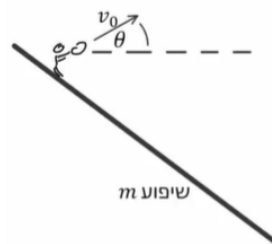
הנח ש- x ו- y תמיד חיוביים.

(2) זריקה משופעת על מישור משופע

איתי עומד על מישור משופע בעל שיפוע m , איתי זורק כדור לכיוון מורד המישור במהירות התחלתית v_0 ובזווית θ ביחס לאופק.

א. מצא מה המרחק מאיתי שבו יפגע הכדור? (התעלם מהגובה של איתי).

ב. מהי הזווית θ עבורה מרחק זה יהיה מקסימאלי?



תשובות סופיות:

$$y(x) = \sqrt{10-x^2} \quad (1)$$



$$\text{א. } x = \frac{2v_0^2 \cos^2 \theta (\tan \theta + m)}{g} \quad \text{ב. } \tan 2\theta = \frac{1}{m}$$

תאוצה נורמלית ומשיקית ורדיוס עקמומיות:

רקע:

תאוצה משיקית:

$$|\vec{a}_t| = \frac{\vec{a} \cdot \vec{v}}{|\vec{v}|}, \quad \vec{a}_t = \frac{(\vec{a} \cdot \vec{v})}{|\vec{v}|^2} \vec{v}$$

התאוצה המשיקית היא ההרכיב של התאוצה שמשיק למהירות (או למסלול) והיא משנה רק את גודל המהירות.

$$|\vec{a}_t| = \frac{d|\vec{v}|}{dt}$$

תאוצה נורמלית:

$$|\vec{a}_n| = |\vec{a} - \vec{a}_t| = \frac{|\vec{a} \times \vec{v}|}{|\vec{v}|}, \quad \vec{a}_n = \vec{a} - \vec{a}_t$$

התאוצה הנורמאלית היא ההרכיב של התאוצה שמאונך למהירות (או למסלול) והיא משנה רק את כיוון המהירות.

רדיוס עקמומיות:

$$R = \frac{|\vec{v}|^2}{|\vec{a}_n|}$$

שאלות:

1) תאוצה משיקית ונורמאלית

מיקומו של גוף כתלות בזמן נתון לפי: $x(t) = 2t^2$, $y(t) = (1-t)^2$

כאשר הצבה של הזמן בשניות תיתן מיקום במטרים.

א. מצא מתי מהירות הגוף מינימלית?

ב. מצא את מיקום הגוף כאשר מהירותו היא: $6 \frac{\text{m}}{\text{sec}}$.

ג. חשב את התאוצה המשיקית והנורמאלית ב- $t = 2 \text{ sec}$.

(2) חישוב תאוצה משיקית ונורמלית גודל וכיוון

וקטור המיקום של גוף מסוים נתון ע"י המשוואה: $\vec{r}(t) = t^2 \hat{x} + 4tx - 5t^2 \hat{z}$.

- חשב את וקטור המהירות של הגוף כתלות בזמן.
- חשב את וקטור התאוצה של הגוף כתלות בזמן.
- חשב את גודל התאוצה המשיקית כתלות בזמן.
- חשב את גודל התאוצה הנורמלית כתלות בזמן.
- חשב את וקטור התאוצה המשיקית כתלות בזמן.
- חשב את וקטור התאוצה הנורמלית כתלות בזמן.

(3) תאוצה משיקית ונורמלית בציקלואידה

המסלול שמשרטטת נקודה על ההיקף של גלגל בעת שזה מתגלגל (ללא החלקה) על משטח אופקי נקרא ציקלואידה. מיקום הנקודה בכל רגע נתון על ידי הביטוי:

$$\vec{r}(t) = (R \sin \omega t + R\omega t) \hat{x} + (R \cos \omega t + R) \hat{y}$$

הם קבועים נתונים.

- חשב את וקטור המהירות של הנקודה בכל רגע.
- מצא את הרגע בו הנקודה נמצאת בשיא הגובה (בציר ה- y) ואת הרגע בו הגובה מינימלי (קיימים אינסוף רגעים כי התנועה מחזורית, רשום בצורה כללית).
- מצא את תאוצת החלקיק בכל רגע.
- חשב את התאוצה המשיקית והנורמלית כאשר הנקודה מגיעה לגובה מקסימלי ומינימלי.
- חשב את התאוצה המשיקית והנורמלית ברגע שבו רכיב ה- x של המהירות מתאפס.

(4) חרוז נע על טבעת אליפטית

חרוז נע על פני טבעת אליפטית, כך שמיקומו בכל רגע כתלות בזמן הוא:

$$\vec{r}(t) = a \cos(\omega t) \hat{x} + b \sin(\omega t) \hat{y}$$

קבועים נתונים.

- מצא את התאוצה המשיקית כתלות בזמן.
- מצא את התאוצה הנורמלית כתלות בזמן.
- כאשר $|a| = |b|$ האליפסה הופכת למעגל. במקרה זה, האם גודל המהירות במשך התנועה גדל, קטן, לפעמים גדל ולפעמים קטן או נשאר קבוע?

תשובות סופיות:

$$\mathbf{r} = (4.38, 0.23) \quad \text{ב.} \quad t = 0.2 \text{ sec} \quad \text{א.} \quad (1)$$

$$\mathbf{a}_b = (4.24, 1.06) \frac{\text{m}}{\text{sec}^2}, \quad \mathbf{a}_n = (-0.24, 0.94) \frac{\text{m}}{\text{sec}^2} \quad \text{ג.}$$

$$\mathbf{a} = \mathbf{V} = 2\hat{x} - 10\hat{z} \quad \text{ב.} \quad \mathbf{V}_{(t)} = \mathbf{V} = 2t\hat{x} + 4\hat{y} - 10t\hat{z} \quad \text{א.} \quad (2)$$

$$|a_n| = \sqrt{\frac{208}{13t^2 + 2}} \quad \text{ד.} \quad |a_t| = \frac{52t}{\sqrt{26t^2 + 4}} \quad \text{ג.}$$

$$\mathbf{a} = \frac{4}{13t^2 + 2} (1, -13t, -5) \quad \text{ו.} \quad \mathbf{a}_t = \frac{52t}{26t^2 + 4} (t, 2, -5t) \quad \text{ה.}$$

$$\mathbf{V} = \mathbf{V} = (R\omega \cdot \cos(\omega t) + R\omega)\hat{x} + (-R\omega \sin(\omega t))\hat{y} \quad \text{א.} \quad (3)$$

$$\mathbf{a} = \mathbf{V} = -\omega^2 R \sin(\omega t)\hat{x} - \omega^2 R \cos(\omega t)\hat{y} \quad \text{ג.} \quad t_{\max} = \frac{2\pi}{\omega} k, \quad t_{\min} = \frac{\pi}{\omega} + \frac{2\pi}{\omega} k \quad \text{ב.}$$

$$\mathbf{a}_t = 0, \quad \mathbf{a}_n = \mathbf{a} = -\omega^2 R \hat{y} \quad \text{ד.} \quad \text{ה. אי אפשר להגדיר.}$$

$$a_t = \frac{\omega^2 \sin(2\omega t)(a^2 - b^2)}{2\sqrt{a^2 \sin^2(\omega t) + b^2 \cos^2(\omega t)}} \quad \text{א.} \quad (4)$$

$$a_n = \sqrt{\omega^4 a^2 \cos^2(\omega t) + \omega^4 b^2 \sin^2(\omega t) + \left(-\frac{\omega^4 \sin^2(2\omega t)(a^2 - b^2)}{4(a^2 \sin^2(\omega t) + b^2 \cos^2(\omega t))} \right)} \quad \text{ב.}$$

$$\text{ג.} \quad |\mathbf{V}| = \text{const}, \quad \text{הגודל נשאר קבוע.}$$

תרגילים נוספים:

שאלות:

(1) גודל מהירות מינימלי

וקטור המיקום של גוף מסוים כתלות בזמן נתון על ידי: $\vec{r}(t) = 2t^2\hat{i} - 6j + (t-5)^2 k$.

א. מהו וקטור המהירות של הגוף כתלות בזמן?

ב. מהו וקטור התאוצה של הגוף כתלות בזמן?

ג. מתי גודל מהירות הגוף מינימלי?

ד. מהו וקטור המיקום כאשר גודל מהירותו הוא: $\sqrt{160} \frac{\text{m}}{\text{sec}}$?

(2) וקטורים בזריקה משופעת

גוף נזרק מראשית הצירים במהירות התחלתית v_0 ובזווית θ ביחס לציר ה- x .

א. מצאו את וקטור המיקום של הגוף כתלות בזמן.

ב. מצאו את וקטור המהירות והתאוצה של הגוף כתלות בזמן.

ג. חשבו את הזווית בין וקטור המהירות לוקטור התאוצה כתלות בזמן.

(3) וקטור מיקום ומסלול

וקטור המיקום של גוף הנע במישור xy נתון לפי: $\hat{r}(t) = A \sin(\omega t)\hat{x} + B \cos(\omega t)\hat{y}$.

א. מצאו את וקטור המהירות והתאוצה של הגוף.

ב. חשבו את הזווית בין וקטור המהירות לוקטור התאוצה ב- $t=0$.

ג. הראו שוקטור התאוצה ווקטור המיקום הפוכים בכיוון.

ד. מצאו את מסלול התנועה של הגוף, כלומר את $y(x)$.

(4) וקטור מיקום ומסלול עם זמן בריבוע

וקטור המיקום של גוף הנע במישור $x-y$ נתון לפי: $\vec{r}(t) = A \sin(\alpha t^2)\hat{x} + B \cos(\alpha t^2)\hat{y}$.

א. מצאו את וקטור המהירות והתאוצה של הגוף.

ב. מצאו את מסלול התנועה של הגוף, כלומר את $y(x)$.

ג. מה ההבדל בין המסלול בתרגיל זה לבין המסלול בתרגיל הקודם?

(5) רובין הוד יורה ותופס חץ

רובין הוד יורה חץ במהירות v_0 וזווית θ ביחס לקרקע. ברגע שחרור החץ מתחיל רובין הוד לרוץ בקו ישר ובתאוצה $a(t) = Ae^{-kt}$. רובין הוד רוצה לתפוס את החץ ברגע פגיעתו בקרקע. מצאו משוואה עם הפרמטרים A , θ , v_0 והמשתנה k ממנה ניתן לחלץ את k כך שרובין יצליח לתפוס את החץ. אין צורך לפתור את המשוואה.

(6) תנועה במעגל*

גוף נקודתי נע במישור אופקי xy .

בזמן $t=0$ מהירות הגוף הייתה: $\vec{v}(0) = 15\pi \hat{i} \frac{\text{m}}{\text{sec}}$ יחד עם וקטור המצב: $\vec{r}(0) = 5\hat{j}\text{m}$.

תאוצת הגוף כפונקציית זמן החל מרגע זה היא:

$$\vec{a}(t) = -45\pi^2 \sin(3\pi t) \hat{i} - 45\pi^2 \cos(3\pi t) \hat{j} \frac{\text{m}}{\text{sec}^2}$$

- מצא את וקטור המהירות של הגוף בזמן.
- מצא את וקטור המצב של הגוף בזמן.
- מצא את הזווית בין וקטור המצב לוקטור התאוצה בזמן.
- מצא את משוואת המסלול של הגוף.

(7) תנועה על אליפסה*

מיקום של גוף נקודתי נתון במשוואה: $\vec{r} = 4 \sin(\pi t) \hat{i} + 3 \cos(\pi t) \hat{j}$ (המיקום במטרים, הזמן בשניות).

- מצא את משוואת המסלול של הגוף.
- מצא את רגעי הזמן שבהם המהירות ורדיוס הוקטור מאונכים.
- מצא את תאוצת התנועה והראה שהיא מכוונת כלי ראשית הצירים.

- מצא באיזה רגעי זמן גודל התאוצה הוא: $\frac{v^2}{r}$.

ה. חשבו את המרחק המינימלי של הגוף מראשית הצירים. כמה פעמים, במשך מחזור תנועה אחד, מגיע הגוף למרחק מינימלי מהראשית?

8) מהירות לפי גזירה תרגיל פשוט

נתון וקטור r של חלקיק מסוים: $\vec{r} = (8t, -5t^2)$.

- א. מהו רכיב ה- x של הווקטור בזמן?
- ב. מהו רכיב ה- y של הווקטור בזמן?
- ג. מהי מהירותו בציר x ?
- ד. מהי מהירותו בציר y ?
- ה. האם מהירויות אלו קבועות בזמן?
- ו. מהו מרחק החלקיק מהראשית לאחר שעברו 3 שניות?

9) גזירת מיקום למציאת מהירות

מיקומו של חלקיק נתון ע"י הווקטור r : $\vec{r} = 5\sin(\pi t), 4t^3 + t^2, 8e^t$.

- א. מצאו את ווקטור המהירות כפונקציה של הזמן.
- ב. מהי מהירות החלקיק ב- $t = 2$?

10) העתק לפי גזירה

וקטור r מתאר מיקומו של חלקיק בזמן: $\vec{r} = (5t, 10 + t^2)$.

- א. מהו מיקום החלקיק בזמן $t = 0$?
- ב. מהו מיקום החלקיק בזמן $t = 5$?
- ג. מהו ההעתק בחמש השניות הראשונות?
- ד. מהי מהירות החלקיק בזמן $t = 5$ (בהצגת גודל וכיוון)?

תשובות סופיות:

$$t_{\min} = 1 \text{ sec} \quad \text{ג.} \quad \vec{a} = \dot{\vec{v}} = 4\hat{i} + 2\hat{k} \quad \text{ב.} \quad \vec{v} = \dot{\vec{r}} = 4t\hat{i} + 2(t-5)\hat{k} \quad \text{א.} \quad (1)$$

$$\vec{r}(t_1) = 18\hat{i} - 6\hat{j} + 4\hat{k} \quad \text{ד.}$$

$$\vec{v} = v_0 \cos \theta \hat{x} + (v_0 \sin \theta - 10t) \hat{y} \quad \text{ב.} \quad \vec{r}(t) = v_0 \cos \theta \cdot t \hat{x} + (v_0 \sin \theta \cdot t - 5t^2) \hat{y} \quad \text{א.} \quad (2)$$

$$\cos \alpha = \frac{10t - v_0 \sin \theta}{\sqrt{(v_0 \cos \theta)^2 + (v_0 \sin \theta - 10t)^2}} \quad \text{ג.}$$

$$\vec{v} = \omega A \cos(\omega t) \hat{x} - \omega B \sin(\omega t) \hat{y}, \quad \vec{a} = -\omega^2 A \sin(\omega t) \hat{x} - \omega^2 B \cos(\omega t) \hat{y} \quad \text{א.} \quad (3)$$

$$\left(\frac{y}{B}\right)^2 + \left(\frac{x}{A}\right)^2 = 1 \quad \text{ד.} \quad \text{ג. הוכחה.} \quad 90^\circ \quad \text{ב.}$$

$$\vec{v} = A \cos(\alpha t^2) 2\alpha t \cdot \hat{x} - B \sin(\alpha t^2) (2\alpha t) \hat{y} \quad \text{א.} \quad (4)$$

$$\vec{a} = \left[-A \sin(\alpha t^2) (2\alpha t)^2 + 2\alpha A \cos(\alpha t^2) \right] \hat{x} - \left[B \cos(\alpha t^2) (2\alpha t)^2 + 2\alpha B \sin(\alpha t^2) \right] \hat{y}$$

$$\left(\frac{y}{B}\right)^2 + \left(\frac{x}{A}\right)^2 = 1 \quad \text{ב.} \quad \text{ג. אין הבדל}$$

$$\frac{v_0^2 \sin 2\theta}{g} = \frac{A}{k} \frac{2v_0 \sin \theta}{g} + \frac{A}{k^2} \left(e^{-k \frac{2v_0 \sin \theta}{g}} - 1 \right) \quad (5)$$

$$\vec{r}(t) = 5 \sin(3\pi t) \hat{i} + 5 \cos(3\pi t) \hat{j} \quad \text{ב.} \quad \vec{v}(t=0) = 15\pi \cos(3\pi t) \hat{i} - 15\pi \sin(3\pi t) \hat{j} \quad \text{א.} \quad (6)$$

$$x^2 + y^2 = 25 \quad \text{ד.} \quad \alpha = 180^\circ \quad \text{ג.}$$

$$t_1 = 0, t_2 = 1, t_3 = \frac{1}{2}, t_4 = \frac{3}{2} \quad \text{ב.} \quad \left(\frac{x}{4}\right)^2 + \left(\frac{y}{3}\right)^2 = 1 \quad \text{א.} \quad (7)$$

$$\vec{a} = \dot{\vec{v}} = -4\pi^2 \sin(\pi t) \hat{i} - 3\pi^2 \cos(\pi t) \hat{j} \quad \text{ג.}$$

$$t_1 = \frac{1}{4} \text{ sec}, t_2 = \frac{5}{4} \text{ sec}, t_3 = \frac{3}{4} \text{ sec}, t_4 = \frac{7}{4} \text{ sec} \quad \text{ד.} \quad \text{ה. } |\vec{r}|(t=1) = 3, \text{ פעמיים.}$$

$$v_y = \dot{r}_y = -10t \quad \text{ד.} \quad v_x = \dot{r}_x = 8 \quad \text{ג.} \quad r_y = -5t^2 \quad \text{ב.} \quad r_x = 8t \quad \text{א.} \quad (8)$$

ה. המהירות על x קבועה בזמן, המהירות על y לא קבועה בזמן.

$$|r_{t=3}| = \sqrt{2601} \quad \text{ו.}$$

$$\vec{v} = \dot{\vec{r}} = 5\pi \cos(\pi t), 12t^2 + 2t, 8e^t \quad \text{א.} \quad (9)$$

$$\vec{v}_{t=2} = 5\pi \cos(2\pi), 4 \cdot 2^3 + 2^2, 8e^2 = 5\pi, 36, 8e^2 \quad \text{ב.}$$

$$|\vec{r}_{t=5} - \vec{r}_{t=0}| = \sqrt{1250} \quad \text{ג.} \quad \vec{r}_{t=5} = (25, 35) \quad \text{ב.} \quad \vec{r}_{t=0} = (0, 10) \quad \text{א.} \quad (10)$$

$$|v_{(t=5)}| = \sqrt{125} \quad \text{ד.}$$

פיזיקה 1 להנדסת אלקטרוניקה ותכנה 3 שעות שבועיות

פרק 5 - תנועה יחסית -

תוכן העניינים

1. הסבר על טרנספורמציית גליליי 67
2. שיטה שניה-פתרון באמצעות תרשימי וקטורים 72

טרנספורמציית גליליי:

רקע:

$$\begin{aligned}\vec{r}_{1,2} &= \vec{r}_1 - \vec{r}_2 \\ \vec{v}_{1,2} &= \vec{v}_1 - \vec{v}_2 \\ \vec{a}_{1,2} &= \vec{a}_1 - \vec{a}_2\end{aligned}$$

שאלות:

(1) כלב קופץ בתוך רכבת

כלב נמצא ברכבת הנעה במהירות $8 \frac{\text{m}}{\text{sec}}$ ביחס לקרקע. הכלב קופץ בכיוון התקדמות הקרון מרחק של 7 מטרים ביחס לקרון. במהלך הקפיצה מהירות הכלב קבועה ביחס לקרון ושווה ל- $3 \frac{\text{m}}{\text{sec}}$. מהו המרחק שעבר הכלב ביחס לקרקע?

(2) מדרגות נעות

כאשר אדם עומד על מדרגות נעות בחנות, הוא מגיע לקומה הרצויה תוך 50 שניות. יום אחד, המדרגות הנעות מתקלקלות והאדם צריך לעלות אותן ברגל בכוחות עצמו, כאשר הוא נע במלוא היכולת שלו, הוא מצליח להגיע לקומה הרצויה תוך 80 שניות. למחרת, המדרגות הנעות עובדות כרגיל, אך האדם מחליט לרוץ בהן במלוא יכולתו בכל זאת.

- א. תוך כמה זמן יגיע לקומה הרצויה?
 - ב. האדם מנסה עתה לרדת חזרה לקומה המקורית במדרגות העולות (אלה בהן הוא עלה קודם).
- האם הוא יכול להצליח בכך?
אם כן תוך כמה זמן יגיע לקומה המקורית?

(3) כדור נזרק במעלית *

- מרצפת מעלית הנמצאת במנוחה נזרק כלפי מעלה במהירות התחלתית לא ידועה. הכדור עובר ליד שעון עצר, המחובר למעלית, ונמצא בגובה 2 מטרים מרצפת המעלית. שעון העצר מופעל ברגע שהכדור חולף לידו בפעם הראשונה ומפסיק ברגע שהכדור חולף לידו בפעם השנייה (בדרכו למטה). השעון מדד זמן של 0.5 שניות.
- מהו זמן התנועה של הכדור מרגע הזריקה עד לפגיעה ברצפת המעלית?
 - מהי הדרך אותה עשה הכדור ביחס למעלית וביחס לכדה"א עד אשר הגיע לשעון בפעם השנייה?
 - חוזרים על הניסוי, אבל כעת המעלית נעה (מלפני זריקת הכדור) במהירות קבועה כלפי מעלה של $4 \frac{\text{m}}{\text{sec}}$. הזמן שמודד השעון הוא שוב 0.5 שניות. מהו זמן התנועה של הכדור מרגע הזריקה ועד לפגיעה ברצפת המעלית?
 - מהי הדרך אותה עשה הכדור ביחס למעלית וביחס לכדה"א עד אשר הגיע לשעון בפעם השנייה?
 - מהי מהירות הכדור ביחס לכדה"א ברגע הפגיעה ברצפת המעלית?

(4) כדור נזרק במעלית מאיזה **

- מעלית נעה בתאוצה קבועה כלפי מעלה של $2 \frac{\text{m}}{\text{sec}^2}$.
- ברגע שמהירות המעלית היא $4 \frac{\text{m}}{\text{sec}}$ נזרק מרצפת המעלית כדור כלפי מעלה במהירות התחלתית לא ידועה.
- הכדור עובר ליד שעון עצר המחובר למעלית ונמצא בגובה 1 מטר מרצפת המעלית. שעון העצר מופעל ברגע שהכדור חולף לידו בפעם הראשונה ומפסיק ברגע שהכדור חולף לידו בפעם השנייה (בדרכו למטה). השעון מדד זמן של 0.5 שניות.
- מהו הזמן עד לפגיעת הכדור ברצפת המעלית?
 - מהי הדרך הכוללת שעבר הכדור ביחס למעלית עד אשר עבר ליד השעון בפעם השנייה?
 - מהי הדרך הכוללת שעבר הכדור ביחס לכדה"א עד אשר עבר ליד השעון בפעם השנייה?
 - מהי מהירות הכדור יחסית לכדה"א ברגע הפגיעה ברצפת המעלית?

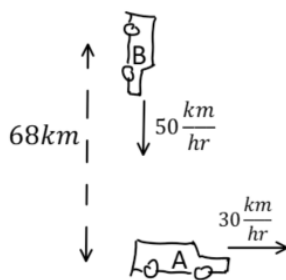
(5) דוגמה - מכונית ביחס לאוטובוס

- מכונית נוסעת במהירות של 30 מטר לשנייה בכיוון ציר ה- x .
- אוטובוס נוסע במהירות של 50 מטר לשנייה בכיוון ציר ה- x .
- מצא את המהירות היחסית בין האוטובוס למכונית.
 - מצא את הזווית בה האוטובוס יראה את המכונית נוסעת.

6) אבן נזרקת מכדור פורח – תעשייה טכניון

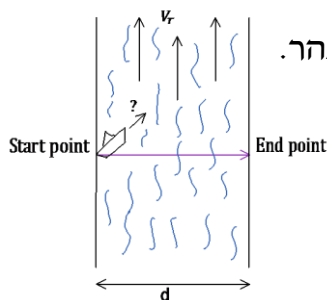
סטודנטית נמצאת על משטח שעולה אנכית במהירות קבועה $v_0 = 6 \frac{m}{sec}$, נסמן ב- $t = 0$ את הרגע בו התחיל לעלות המשטח מהקרקע. ברגע $t_1 = 3 sec$ הסטודנטית זורקת אבן במהירות $v_1 = 8 \frac{m}{sec}$, אופקית ביחס אליה. מהו הזמן בו האבן פוגעת בקרקע (ביחס לזמן אפס של השאלה)?

7) מרחק מינימלי בין מכוניות



צופה הנמצא ברכב A יוצא מנקודה מסוימת לכיוון מזרח במהירות 30 קמ"ש. באותו הזמן רכב B יוצא ממרחק 68 ק"מ צפונית לנקודת יציאתו של רכב A ונוסע דרומה במהירות של 50 קמ"ש, כמתואר באיור. א. רשמו את פונקציית המרחק בין שני כלי הרכב כתלות בזמן. ב. מצאו תוך כמה שעות המרחק בין כלי הרכב יהיה מינימלי. צאו את גודלו של מרחק זה. ג. הראו כי ברגע בו המרחק בין המכוניות מינימלי וקטור המיקום היחסי מאונך לוקטור המהירות היחסית.

8) סירה בנהר



נהר זורם צפונה במהירות v_r . יוסי נמצא בגדה המערבית ורוצה להשיט סירה לרוחב הנהר. מהירות הסירה היא v_{br} יחסית לנהר. יוסי מעוניין להגיע אל הגדה הנגדית בדיוק מזרחית לנקודת מוצאו. נתון כי רוחב הנהר d. א. באיזה כיוון הוא יהיה חייב להשיט את הסירה? ב. מה מהירות הסירה יחסית לאדמה? ג. כמה זמן תארך דרכו?

9) אנייה שטה מערבה וצופה באנייה נוספת

מאנייה A השטה מערבה במהירות 30 קמ"ש נראית אנייה B כאילו היא שטה בדיוק צפונה. כאשר אנייה A מאטה ומורידה את מהירותה ל-10 קמ"ש (באותו הכיוון) נראית ממנה אנייה B כאילו היא שטה בכיוון היוצר זווית של 42 מעלות מערבית לצפון. מהו גודלה וכיוונה של מהירות אנייה B ביחס לקרקע?

10) זווית פגיעה של גשם במכונית

נהג הנוסע במהירות 100 קמ"ש רואה טיפות גשם נמרחות על השמשה הצדדית של המכונית בכיוון הפוך לכיוון הנסיעה ובזווית של 45 מעלות עם הציר האנכי לכיוון הנסיעה.
 נהג אחר הנוסע במהירות 70 קמ"ש רואה את טיפות הגשם בזווית 30 מעלות עם אותו הציר.
 מצא את מהירות הטיפות ביחס לקרקע (גודל וכיוון).

11) זווית בין מהירויות

שני קליעים נורים ברגע $t = 0$. מיקומם ומהירותם ההתחלתית הם:

$${}^1v_2(0) = -1\hat{i} + 4\hat{j}, \quad {}^1v_1(0) = 2\hat{i} + 5\hat{j}, \quad {}^1r_2(0) = \hat{i}, \quad {}^1r_1(0) = 0$$

על שניהם פועל כוח משיכה הגורם לתאוצה של $\hat{a} = -3\hat{i} + \hat{j}$ היחידות הן MKS.

א. מצא את ${}^1r_2(t)$, ${}^1r_1(t)$.

ב. מצא את המרחק בין הקליעים כפונקציה של הזמן.

ג. מצא את הזווית בין 1v_1 ל- 1v_2 ברגע $t = 3$.

12) מציאת מהירות בין מערכות

ביחס למערכת ייחוס A, מיקומו של גוף מסוים נתונה על ידי:

$${}^1r_A(t) = (6t^2 - 4t, -3t^3, 3)$$

מערכת ייחוס B נעה ביחס למערכת הייחוס הראשונה במהירות קבועה, \vec{V}_{AB} . צופה הנמצא במערכת B רואה את הגוף נע כך שמיקומו בכל רגע הוא:

$${}^1r_B(t) = (6t^2 - 3t, 2t - 3t^3, 5)$$

א. חשבו את המהירות של המערכת B ביחס למערכת A, \vec{V}_{AB} .
 ב. הראו שתאוצת הגוף זהה בשתי מערכות הייחוס, וחשבו אותה.

תשובות סופיות:

- (1) 25.7m
- (2) א. $t = 30.8 \text{ sec}$ ב. לא.
- (3) א. $t = 1.36 \text{ sec}$ ב. $S = 2.62 \text{ m}$ ג. $t = 1.36 \text{ sec}$ ד. $S = 5.72 \text{ m}$
- ה. $v_1 = -2.8 \frac{\text{m}}{\text{sec}}$
- (4) א. $t = 0.96 \text{ sec}$ ב. $S = 1.76 \text{ m}$ ג. $S = 4.46 \text{ m}$ ד. $v_1 = 0.16 \frac{\text{m}}{\text{sec}}$
- (5) א. $v_2' = \left(-24.01 \frac{\text{m}}{\text{sec}}, 15 \frac{\text{m}}{\text{sec}} \right)$ ב. $\theta_2' = 148^\circ$
- (6) 2.6 sec
- (7) א. $|\vec{r}_{B,A}^r| = \sqrt{(30t)^2 + (68 - 50t)^2}$ ב. $|\vec{r}_{B,A}^r| = 35 \text{ km}$, $t = 1 \text{ hr}$ ג. הוכחה.
- (8) א. $\sin \theta = -\frac{V_r}{V_{br}}$ ב. $V_{bx} = \sqrt{V_{br}^2 - V_r^2}$ ג. $t = \frac{d}{\sqrt{V_{br}^2 - V_r^2}}$
- (9) צפונה מהמערב $\alpha \approx 36.5^\circ$, $V_B \approx 37.3 \text{ km/hr}$
- (10) מהירות: $V_x = 29.21 \frac{\text{km}}{\text{hr}}$, $V_y = -70.79 \frac{\text{km}}{\text{hr}}$, גודל וכיוון: ראה סרטון.
- (11) א. $\vec{r}_1(t) = \left(-\frac{3}{2}t^2 + 2t \right) \hat{i} + \left(\frac{t^2}{2} + 5t \right) \hat{j}$, $\vec{r}_2(t) = \left(-\frac{3}{2}t^2 - t + 1 \right) \hat{i} + \left(\frac{t^2}{2} + 4t \right) \hat{j}$
- ב. $|\vec{r}_{1,2}^r| = \sqrt{10t^2 - 6t + 1}$ ג. $\alpha = 13.82^\circ$
- (12) א. $(1, -2, 0)$ ב. הוכחה.

שיטה שניה-פתרון באמצעות תרשימי וקטורים:

שאלות:

(1) שיטה שניה-פתרון באמצעות תרשימי וקטורים ודוגמה
צופה הנמצא באונייה A השטה מזרחה במהירות 15 קמ"ש רואה את
אונייה B שטה במהירות 20 קמ"ש ובכיוון 60 מעלות צפונית למזרח.
מהי המהירות של אונייה B ביחס לקרקע, גודל וכיוון?

(2) סירה בנהר פתרון בשיטה השניה

נהר זורם צפונה במהירות V_r .

יוסי נמצא בגדה המערבית ורוצה להשיט סירה לרוחב הנהר.

מהירות הסירה היא V_{br} יחסית לנהר.

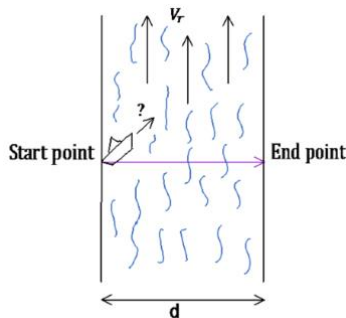
יוסי מעוניין להגיע אל הגדה הנגדית בדיוק מזרחית
לנקודת מוצאו.

א. סרטטו תרשים וקטורי ובו:

מהירות הסירה ביחס לקרקע, מהירות הנהר

ביחס לקרקע ומהירות הסירה ביחס לנהר.

ב. מצאו את כיוון מהירות הסירה ביחס לנהר.



(3) מטוס נראה משתי רכבות

צופה הנמצא ברכבת הנעה מזרחה במהירות של 50 קמ"ש רואה

מטוס חוצה את המסילה בזווית של 30 מעלות מערבית לצפון.

צופה אחר הנוסע ברכבת הנעה מערב במהירות של 100 קמ"ש רואה

את אותו המטוס חוצה את המסילה בזווית של 50 מעלות מזרחית לצפון.

א. סרטטו תרשים וקטורים ובו:

מהירות הצופים ביחס לקרקע, מהירות המטוס ביחס לכל צופה ומהירות

המטוס ביחס לקרקע (אין צורך לדעת את כל הנתונים בתרשים).

ב. מצאו את מהירות המטוס ביחס לקרקע (גודל וכיוון).

(4) רכב רואה רכב רואה רכב

צופה היושב ברכב A רואה את רכב B כאילו הוא נע צפונה במהירות v_{BA} .

צופה היושב ברכב B רואה את רכב C, כאילו הוא נע בכיוון צפון מערב בזווית α

מהצפון ובמהירות v_{CB} .

רכב A נע ביחס לקרקע בכיוון צפון מזרח בזווית β מן הצפון ובמהירות v_A .

מהי המהירות של רכב C ביחס לקרקע, גודל וכיוון?

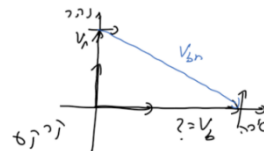
(5) שני דאונים

שני דאונים טסים באותו הגובה.
באזור טיסתם קיים זרם אוויר במהירות 40 קמ"ש ובכיוון של 30 מעלות מזרחה מהצפון.
דאון 1 טס ביחס לזרם במהירות 30 קמ"ש ובכיוון צפון.
דאון 2 טס ביחס לקרקע במהירות לא ידועה אך בכיוון צפון.
בנוסף הטייס שבדאון 1 רואה את דאון 2 כאילו הוא טס מערבה.
מצאו את גודל וכיוון מהירויות הדאונים ביחס לקרקע.

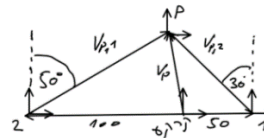
תשובות סופיות:

1) 30.4 קמ"ש ובזווית 34.7 מעלות צפונית למזרח.

2) א. $\theta = \text{shift} \sin\left(\frac{V_r}{V_{br}}\right)$ ב. דרומית למזרח.



3) א. 84.98 קמ"ש ובכיוון 2 מעלות מערבית מהצפון.



$$v_c = \sqrt{(v_A \sin \beta - v_{CB} \sin \alpha)^2 + (v_A \cos \beta + v_{BA} + v_{CB} \cos \alpha)^2} \quad (4)$$

$$\tan \theta_C = \frac{v_A \cos \beta + v_{BA} + v_{CB} \cos \alpha}{v_A \sin \beta - v_{CB} \sin \alpha}$$

5) דאון 1: 67.7 קמ"ש ובזווית 17.2 מעלות מזרחה מהצפון.
דאון 2: 64.6 קמ"ש צפונה.

פיזיקה 1 להנדסת אלקטרוניקה ותכנה 3 שעות שבועיות

פרק 6 - דינמיקה - חוקי ניוטון

תוכן העניינים

74 1. חוקי ניוטון

חוקי ניוטון:

רקע:

כוחות נפוצים:

כוח הכובד

סימון: W (קיצור של Weight).

מופעל ע"י כדור הארץ.

כיוון: למרכז כדור הארץ (או לכיוון האדמה).

גודל: mg .

נורמל

סימון: N .

מופעל ע"י משטח.

כיוון: תמיד מאונך למשטח ודוחף (מהמשטח כלפי חוץ).

גודל: לא ידוע, תלוי בבעיה (לא שווה ל- mg).

מתיחות

מופעל על ידי חוט או חבל.

סימון: T (קיצור של Tension).

כיוון: תמיד מושך את הגוף לכיוון החוט.

הערה, חוט תמיד מושך משני צדדיו.

חוט אידיאלי – חוט חסר מסה שאינו משנה את אורכו (לא אלסטי).

בחוט אידיאלי המתיחות אחידה לאורך החוט.

החיכוך:

חיכוך סטטי

סימון - f_s

פועל כאשר אין תנועה יחסית בין המשטחים.

מופעל ע"י המשטח.

כיוון: משיק למשטח (נגד כיוון השאיפה

לתנועה).

$$f_{s \max} = \mu_s N \text{ או } f_s \leq \mu_s N$$

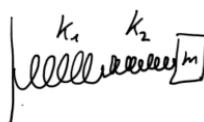
μ_s - מקדם חיכוך סטטי (תלוי בחומר וקבוע).

N - הנורמל שמפעיל המשטח.

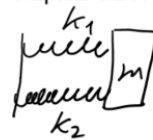
שימו לב ש $f_s = \mu_s N$ רק אם הגוף על סף החלקה! (בכל מקרה אחר החיכוך אינו

ידוע, בדרי"כ אפשר למצוא אותו ממשוואת הכוחות)

חיבור בטור



חיבור במקביל



חיכוך קינטי :

סימון- f_k

פועל כאשר יש תנועה יחסית בין המשטחים.

מופעל ע"י משטח.

כיוון : משיק למשטח (נגד כיוון התנועה היחסית).

גודל : $f_k = \mu_k N$.

μ_k - מקדם החיכוך הקינטי – תלוי בסוגי החומרים. בד"כ קבוע.

N - הנורמל שמפעיל המשטח.

חוק ראשון של ניוטון – התמדה :

אם גוף נע בקו ישר ובמהירות קבועה (בהתמדה) סכום הכוחות עליו שווה לאפס. מקרה פרטי של תנועה במהירות קבועה הוא מנוחה. לכן, אם גוף נמצא במנוחה סכום הכוחות עליו הוא אפס.

חוק שלישי – עקרון פעולה תגובה :

לכל כוח שגוף A מפעיל על גוף B יש כוח תגובה שגוף B מפעיל חזרה על גוף A. כוח התגובה שווה בגודלו והפוך בכיוונו. שימו לב : הכוחות פועלים על גופים שונים ולכן אף פעם לא יופיעו באותו תרשים כוחות.

חוק שני של ניוטון :

$$\sum \vec{F} = m\vec{a}$$

בפועל רושמים את הנוסחה לכל ציר בנפרד.

חוק הוק – הכוח של קפיץ :

חיבור במקביל

חיבור בטור

$$F = -k\Delta x$$

$$\Delta x = x - x_0$$

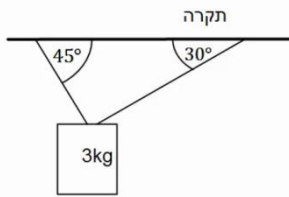
x - מיקום הגוף.

x_0 - מיקום שבו הקפיץ רפוי.

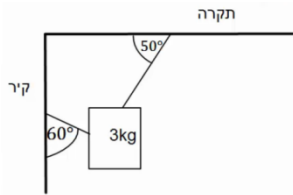
חיבור קפיצים במקביל (שני הקפיצים מחוברים לגוף ולקיר) - $k_{eff} = k_1 + k_2$.
 חיבור קפיצים בטור (גוף מחובר לקפיץ אחד שמחובר לקפיץ שני שמחובר לקיר) -

$$\frac{1}{k_{eff}} = \frac{1}{k_1} + \frac{1}{k_2}$$

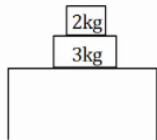
שאלות:



- (1) **דוגמה-גוף תלוי מהתקרה**
גוף תלוי במנוחה מהתקרה באמצעות שני חוטים, לפי האיור הבא.
מהי המתוחות בכל חוט אם מסת הגוף היא 3 ק"ג?

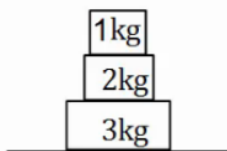


- (2) **דוגמה-גוף תלוי מהתקרה ומהקיר**
גוף תלוי במנוחה מהתקרה באמצעות חוט ומחובר לקיר המאונך לתקרה באמצעות חוט נוסף (הסתכל באיור).
מהי המתוחות בכל חוט אם מסת הגוף היא 3 ק"ג?



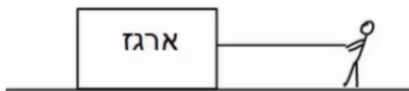
- (3) **דוגמה-מסה על מסה**
במערכת הבאה ישנה מסה של 3 ק"ג הנמצאת במנוחה על שולחן.
על המסה מונחת מסה נוספת של 2 ק"ג.

- שרטט תרשים כוחות לכל אחת מהמסות.
- חשב את הכוח הנורמלי הפועל על המסה העליונה.
- חשב את הכוח הנורמלי הפועל על המסה התחתונה.
- חשב את הכוח הנורמלי הפועל על השולחן.

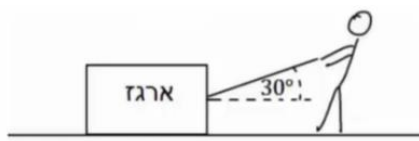


- (4) **דוגמה-מסה על מסה על מסה**
שלוש מסות מונחות אחת על גבי השנייה ועל הקרקע במנוחה, כפי שנראה בציור.

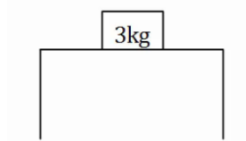
- מהו גודלו וכיוונו של הכוח שמפעילה המסה הכי תחתונה על המסה מעליה?
- מהו גודלו וכיוונו של הכוח שמפעילה הרצפה על המסה הכי תחתונה?



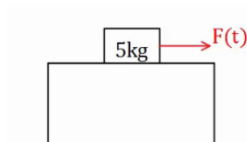
- (5) **דוגמה-דני מושך במקביל לקרקע**
דני מושך ארגז במקביל לקרקע. ידוע כי מסת הארגז היא 20 ק"ג ומקדם החיכוך הקינטי בין הארגז לקרקע הוא: $\mu_k = 0.2$.
מצא מהו גודלו של הכוח שמפעיל דני, אם הארגז נע במהירות קבועה?

6) ירון מושך בארז

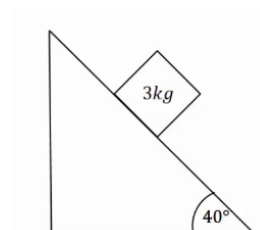
ירון מושך ארז באמצעות חבל הנמתח בזווית של 30 מעלות ביחס לקרקע. ידוע כי מסת הארז היא 20 ק"ג, ומקדם החיכוך הקינטי בין הארז לקרקע הוא: $\mu_k = 0.2$. מצא מהו גודלו של הכוח שמפעיל ירון, אם הארז נע במהירות קבועה?

7) גוף על שולחן

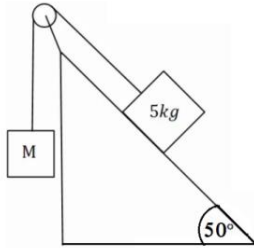
גוף בעל מסה של 3 ק"ג נמצא במנוחה על שולחן. מקדם החיכוך הסטטי הוא: $\mu_s = 0.4$.
א. מהו הכוח המקסימלי הניתן להפעיל על הגוף, כך שישאר במנוחה?
כוח אופקי בגודל 10 ניוטון פועל על הגוף ימינה.
ב. מצא את גודלו וכיוונו של החיכוך הסטטי.

8) כוח תלוי בזמן

גוף בעל מסה של 5 ק"ג נמצא במנוחה על שולחן. כוח אופקי התלוי בזמן $F(t) = 2 \cdot t^2$ פועל על הגוף ימינה. מקדם החיכוך הסטטי הוא: $\mu_s = 0.3$.
א. מהו הכוח המקסימלי הניתן להפעיל על הגוף, כך שישאר במנוחה?
ב. מתי יתחיל הגוף בתנועה?
ג. שרטט גרף של החיכוך הסטטי כתלות בזמן.

9) מסה בשיפוע

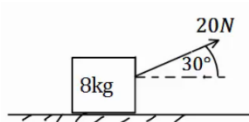
מסה של 3 ק"ג נמצאת במנוחה על מישור משופע בעל זווית של 40 מעלות. בין המסה למדרון קיים חיכוך, ומקדם החיכוך הסטטי הוא: $\mu_s = 0.9$.
א. שרטט תרשים כוחות לבעיה.
ב. מצא את גודלם של הכוח הנורמלי והחיכוך.

10) מסה בשיפוע ומסה באוויר

מסה של 5 ק"ג מונחת על מישור משופע בעל זווית של 50 מעלות. המסה מחוברת באמצעות חוט אידיאלי ודרך גלגלת אידיאלית למסה נוספת M התלויה באוויר מצידו השני של המישור.

א. מצא את גודלה של המסה M, על מנת שהמערכת תשאר במנוחה כאשר אין חיכוך בבעיה. כעת נתון שבין המסה למדרון קיים חיכוך, ומקדם החיכוך הסטטי הוא: $\mu_s = 0.3$.

ב. מצא מה הוא גודלה המקסימלי והמינימלי האפשרי של M, על מנת שהמערכת תשאר במנוחה.

11) דוגמה-כוח בזווית 30 מעלות

כוח של 20 ניוטון פועל בזווית של 30 מעלות מעל האופק. הכוח מופעל על ארגז בעל מסה של 8 ק"ג. הארגז נמצא במנוחה ונתון כי בין הארגז לרצפה קיים חיכוך. מקדמי החיכוך הסטטי והקינטי הם: $\mu_k = 0.1$, $\mu_s = 0.2$.

א. בדוק האם הארגז נשאר במנוחה או מתחיל נוע?
 ב. כמה זמן ייקח להזיז את הארגז למרחק של 30 מטרים באמצעות כוח זה?
 ג. חזור על הסעיפים אם הכוח היה בזווית של 70 מעלות.

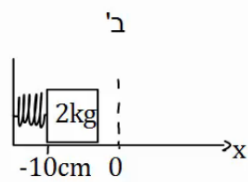
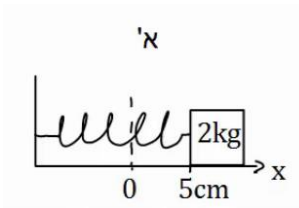
12) דוגמה-מרחק עצירה

דני נוסע במכוניתו במהירות של 54 קמ"ש, ולפתע הוא מבחין כי רמזור הנמצא 50 מטרים לפניו הופך לאדום. דני לוחץ על הבלמים ומתחיל בעצירה. מקדם החיכוך הקינטי בין הגלגלים לרצפה הוא: $\mu_k = 0.3$.

הנח שהגלגלים ננעלים ואין למכונית מערכת ABS.

א. האם דני יספיק לעצור לפני הרמזור?

ב. בדוק שוב האם דני יספיק לעצור, אך הפעם הוסף זמן תגובה של שנייה אחת (הזמן מהרגע שבו דני מבחין באור עד אשר הוא לוחץ על הבלמים).

13) דוגמה 1-קפיץ

גוף בעל מסה של 2 ק"ג מחובר לקפיץ בעל קבוע

קפיץ $k = 50 \frac{N}{m}$. בין הגוף למשטח אין חיכוך.

א. מושכים את הגוף למרחק 5 ס"מ מהנקודה בה

הקפיץ רפוי ומשחררים אותו.

מהי תאוצת הגוף (גודל וכיוון)?

ב. דוחפים את הגוף למרחק 10 ס"מ מהנקודה בה

הקפיץ רפוי ומשחררים אותו.

מהי תאוצת הגוף (גודל וכיוון)?

כעת נתון כי בין הגוף למשטח קיים חיכוך, ומקדם

החיכוך הסטטי הוא: $\mu_s = 0.2$.

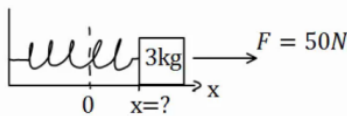
ג. מהו המרחק המקסימלי בו ניתן להניח את הגוף קשור

לקפיץ כך שישאר במנוחה?

14) דוגמה 2-קפיץ

גוף בעל מסה של 3 ק"ג מחובר לקפיץ בעל קבוע

קפיץ $k = 100 \frac{N}{m}$. בין הגוף למשטח אין חיכוך.



על הגוף פועל כוח ימינה שגודלו 50 ניוטון.

קבע את ראשית הצירים בנקודת הרפיון של הקפיץ.

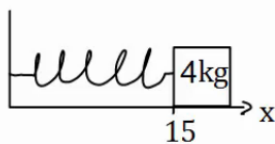
היכן נמצאת נקודת שיווי המשקל (הנקודה בה סכום

הכוחות שווה לאפס)?

15) דוגמה 3-קפיץ

גוף בעל מסה של 4 ק"ג מחובר לקיר באמצעות קפיץ

בעל קבוע קפיץ $k = 50 \frac{N}{m}$. בין הגוף למשטח אין חיכוך.



אורכו הרפוי של הקפיץ הוא 10 ס"מ.

א. חשב את הכוח שמפעיל הקפיץ על הגוף כאשר

הגוף במרחק 15 ס"מ מהקיר.

ב. חשב את הכוח שמפעיל הקפיץ על הגוף כאשר

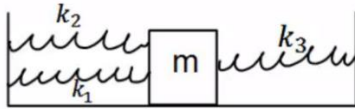
הגוף במרחק 6 ס"מ מהקיר.

ג. חשב את תאוצת הגוף בכל נקודה אם על הגוף

פועל כוח שגודלו 10 ניוטון שמאלה.

16) מסה עם שלושה קפיצים

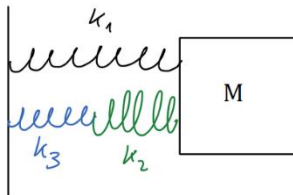
שלושה קפיצים מחוברים למסה $m = 2\text{kg}$, כפי שנראה באיור. אין חיכוך בין המסה לרצפה.



נתון כי: $k_1 = 3 \frac{\text{N}}{\text{m}}$, $k_2 = 5 \frac{\text{N}}{\text{m}}$, $k_3 = 12 \frac{\text{N}}{\text{m}}$.

הנח כי כל הקפיצים רפויים באותה הנקודה.

מהי תאוצת המסה כאשר היא נמצאת במרחק 20 ס"מ מנקודת שיווי המשקל?

17) שלושה קפיצים שוב

באיור הבה, המסה $m = 4\text{kg}$ מחוברת לשלושה קפיצים

בעלי קבועי קפיץ שונים. הנח שכל הקפיצים רפויים

כאשר המסה נמצאת ב- $x = 0$.

מהי תאוצת המסה, כאשר מיקומה הוא: $x = 0.2\text{m}$,

אם קבועי הקפיצים הם: $k_1 = 3 \frac{\text{N}}{\text{m}}$, $k_2 = 5 \frac{\text{N}}{\text{m}}$, $k_3 = 12 \frac{\text{N}}{\text{m}}$?

18) כוח אופקי תלוי בזמן

כוח אופקי שגודלו $F = 2t$ פועל על גוף, כאשר הזמן t נתון בשניות והכוח F בניוטונים. מסת הגוף 2kg והוא נמצא במנוחה על משטח אופקי.

מקדמי החיכוך בין הגוף למשטח: $\mu_k = 0.15$, $\mu_s = 0.2$. מצא את:

א. זמן תחילת התנועה.

ב. כוח החיכוך בזמן $t = 0.5\text{sec}$.

ג. תאוצת הגוף כפונקציה של זמן.

ד. מהירות הגוף לאחר 4 שניות.

ה. מיקום הגוף לאחר 4 שניות.

19) כוח בזווית תלוי בזמן

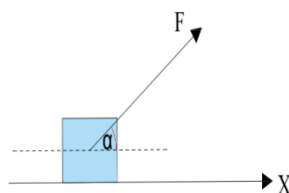
הגוף שבציור מונח על הרצפה, בזמן $t = 0$ מתחיל לפעול

על הגוף כוח שגודלו $F = 2t$ הזמן בשניות והכוח בניוטונים.

הכוח פועל בזווית $\alpha = 37^\circ$ יחסית לציר התנועה.

מסת הגוף היא 2kg .

נתון כי מקדם החיכוך הסטטי והקינטי בין הגוף והרצפה הוא: $\mu = 0.2$.

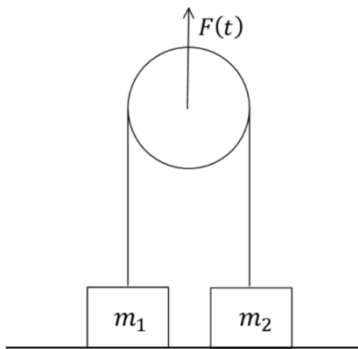


לפשטות החישוב קחו: $\sin \alpha = 0.6$, $\cos \alpha = 0.8$, $g = 10 \frac{\text{m}}{\text{sec}^2}$.

א. מתי יתחיל הגוף לנוע?

ב. מהי מהירות הגוף לאחר 4 שניות?

ג. מה המרחק שהתקדם הגוף עד לניתוקו מהקרע?

**20) מכונת אטווד נמשכת בכוח תלוי בזמן**

מכונת אטווד מורכבת מגלגלת וחוטאים אידיאליים ושתי מסות המחוברות משני צידי הגלגלת (ראו איור). ב $t = 0$ שתי המסות מונחות על הקרקע ומתחיל לפעול כוח התלוי בזמן $F(t) = 8t^2$ ניוטון על הגלגלת כלפי מעלה.

נתון: $m_1 = 1.6 \text{ kg}$, $m_2 = 3.6 \text{ kg}$

א. באיזה זמן כל אחת מהמסות תנתק מהרצפה?

ב. מהי מהירות המסה m_1 ב $t = 5 \text{ s}$? (הניחו שהחוטאים ארוכים מאוד).

21) זריקה משופעת עם כוחות תלויים בזמן

גוף שמסתו 2 ק"ג נזרק מהקרקע במהירות 30 מטר לשניה ובזווית 20 מעלות מעל האופק. במהלך תנועתו פועלים על הגוף כוחות שונים עד אשר הוא פוגע בקרקע. שקול הכוחות (כולל כוח הכובד) נתון לפי

$$\vec{F}(t) = 10t^2 \hat{x} + (0.4t - 10) \hat{y}$$

א. מהו וקטור המיקום של הגוף כתלות בזמן?

ב. מתי יפגע הגוף בקרקע ובאיזה מרחק תהיה הפגיעה מנקודת המוצא?

22) גוף על מישור עם כוח סינוס

גוף שמסתו m נמצא במנוחה על מישור אופקי. ברגע $t = 0$ מתחיל לפעול על הגוף כוח אופקי $F(t) = A \sin(\omega t)$ כאשר $\omega = 1 \frac{\text{rad}}{\text{sec}}$ ו- A הינו פרמטר נתון.

מקדם החיכוך הסטטי והקינטי בין הגוף והמישור הוא $\mu = \frac{A}{2mg}$.

א. מתי הגוף יתחיל לנוע?

ב. מהי מהירות הגוף כתלות בזמן?

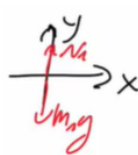
ג. מהו מיקום הגוף כתלות בזמן ביחס לנקודת המוצא?

תשובות סופיות:

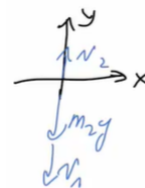
1) $T_1 \approx 22.0 \text{ N}$, $T_2 \approx 26.9 \text{ N}$

2) $T_2 \approx 19.6 \text{ N}$, $T_1 \approx 26.4 \text{ N}$

3) א. מסה 3 ק"ג : ג. 20 N מסה 2 ק"ג : ד. 50 N



ד. 50 N



ג. 20 N

ב. 20 N

4) א. 30N למעלה ב. 60N למעלה

5) 40N

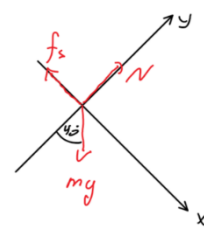
6) $T \approx 41.3N$

7) א. 12N ב. 10N

8) א. 20N ב. $\sqrt{10} \text{ sec}$ ג.



ב. $f_s \approx 19.3N$, $N \approx 23.0N$



9) א.

10) א. $M = 3.83kg$ ב. $M_{\min} = 2.87kg$, $M_{\max} = 4.79kg$

11) א. הגוף לא יכול להיות במנוחה. ב. $t \approx 6.82 \text{ sec}$

ג. סעיף א': נשאר במנוחה, סעיף ב': אין משמעות.

12) א. כן, כי $\Delta x \approx 37.5m < 50m$ ב. לא, כי $\Delta x = 52.5m > 50m$

13) א. גודל: $-1.25 \frac{m}{sec^2}$, הכיוון חיובי. ב. גודל: $a = 2.5 \frac{m}{sec^2}$, הכיוון חיובי.

ג. $x = 8cm$

14) $x = \frac{1}{2} m$

15) א. $F = -2.5N$ ב. $F = 2N$ ג. סעיף א': $a = -3.13 \frac{m}{sec^2}$

סעיף ב': $a = -2 \frac{m}{sec^2}$

16) $a = -2 \frac{m}{sec^2}$

17) $a \approx 0.326 \frac{m}{sec^2}$

18) א. $t = 2 \text{ sec}$ ב. $f_s = 1N$ ג. $a = \begin{cases} 0 & 0 < t < 2 \\ t - \frac{3}{2} & 2 < t \end{cases}$

ד. $v(t=4) = 3 \frac{m}{sec}$ ה. $x(t=4) = 2.3m$

19) א. $t \approx 2.17 \text{ sec}$ ב. $v(t=4) = 1.53 \frac{m}{sec}$ ג. $x = 467m$

20) א. $t_2 = 3 \text{ sec}$, $t_1 = 2 \text{ sec}$ ב. $67.5 m/s$

$$\vec{r}(t) = \left(\frac{5}{12}t^4 + 28.2t\right)\hat{x} + \left(\frac{t^3}{30} - \frac{5}{2}t^2 + 10.3t\right)\hat{y} \quad \text{א. (21)}$$

ב. זמן פגיעה 4.36sec ובמרחק 274m

$$t \approx 0.524s \quad \text{א. (22)}$$

ב. כאשר $v = 0$ $t < 0.524s$

$$t > 0.524s \quad \text{כאשר } v(t) = \frac{A}{m} \left[-\frac{1}{\omega} \cos(\omega t) - \frac{1}{2}t + 1.32 \right] \quad \text{ו-}$$

ג. כאשר $x = 0$ $t < 0.524s$

$$t > 0.524s \quad \text{כאשר } x(t) = \frac{A}{m} \left[-\frac{1}{\omega^2} \sin(\omega t) - \frac{\Sigma^2}{4} + 1.32t - 0.0724 \right] \quad \text{ו-}$$

פיזיקה 1 להנדסת אלקטרוניקה ותכנה 3 שעות שבועיות

פרק 7 - עבודה ואנרגיה -

תוכן העניינים

84	1. שימור אנרגיה ומשפט עבודה ואנרגיה
88	2. חישוב עבודה לכוח לא קבוע
90	3. חישוב כוח משמר מאנרגיה פוטנציאלית
91	4. איך בודקים האם כוח הוא משמר
92	5. הספק ונצילות
95	6. תרגילים מסכמים
99	7. תרגילים מסכמים כולל תנועה מעגלית

שימור אנרגיה ומשפט עבודה ואנרגיה

רקע

עבודה של כוח קבוע :

$$W = \vec{F} \cdot \Delta\vec{r} = |\vec{F}| \cdot |\Delta\vec{r}| \cdot \cos \alpha = F_x \Delta x + F_y \Delta y + F_z \Delta z$$

כאשר α היא הזווית בין הכוח להעתק

הערות :

1. העבודה של כוח שמאונך להעתק (לתנועה) מתאפסת.
2. אם הגוף לא זז אז אין עבודה (לכן העבודה של החיכוך הסטטי היא תמיד אפס).

הקשר בין עבודה כוללת לאנרגיה קינטית :

$$W_{\Sigma F} = \Delta E_k$$

$$E_k = \frac{1}{2} m v^2$$

כוח משמר :

1. העבודה שמבצע הכוח אינה תלויה במסלול. היא תלויה רק בנקודה בה התחיל הגוף ובנקודה בה סיים הגוף את התנועה.
2. העבודה במסלול סגור מתאפסת.

$$W_c = -\Delta U \quad \text{יש לו אנרגיה פוטנציאלית}$$

$$U_g = mgh \quad \text{האנרגיה הפוטנציאלית הכובדית}$$

$$U_{el} = \frac{1}{2} kx^2 \quad \text{האנרגיה הפוטנציאלית האלסטית}$$

כאשר x הוא ההתארכות של הקפיץ ממצב רפוי ו- k הוא קבוע הקפיץ

$$E = E_k + U \quad \text{אנרגיה (מכאנית) כללית :}$$

U היא סכום כל האנרגיות הפוטנציאליות שקיימות בבעיה.

משפט עבודה אנרגיה: $E_i + W_{NC} = E_f$

W_{NC} העבודה של הכוחות הלא משמרים

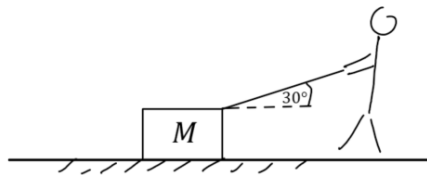
חוק שימור האנרגיה:

אם כל הכוחות משמרים (או העבודה של הכוחות הלא משמרים שווה לאפס) אז האנרגיה הכללית נשמרת

שאלות

1) אדם מושך ארגז

אדם מושך ארגז שמסתו $M = 5\text{kg}$ באמצעות חבל ובזווית 30° מעלות ביחס לקרקע. מקדם החיכוך הקינטי בין הארגז לקרקע הוא: $\mu_k = 0.2$. האדם מושך את הארגז לאורך שני מטרים. הכוח שמפעיל האדם הוא 80N .



- מהי העבודה שביצע האדם?
- מהי העבודה שביצע כוח החיכוך?
- מהן העבודות שביצעו כוח הכובד והנורמל מהמשטח?
- מהי העבודה הכוללת שנעשתה על הארגז?

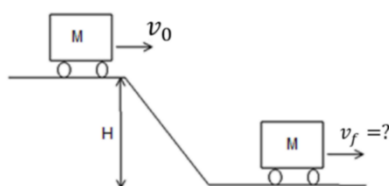
2) מהירות הארגז

בדוגמה הקודמת, אדם מושך ארגז, חשב את מהירות הארגז לאחר שהאדם משך אותו 2 מטרים אם ידוע שהוא התחיל ממנוחה.

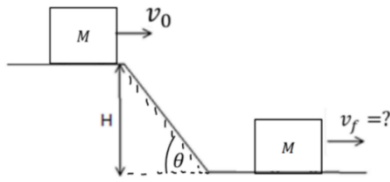
3) חישוב עבודה של כוח הכובד

אבן בעלת מסה 2kg נופלת מגג בניין בגובה 10 מטרים. חשבו את העבודה שביצע כוח הכובד על האבן עד הפגיעה בקרקע. חשבו פעם אחת באופן מפורש דרך המכפלה הסקלרית ופעם נוספת דרך האנרגיה הפוטנציאלית.

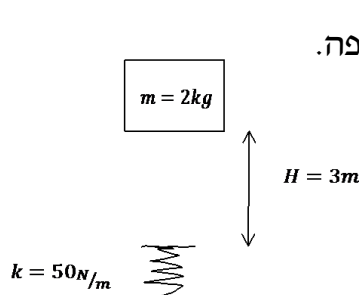
4) עגלה במדרון



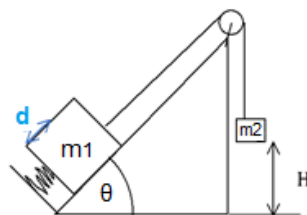
עגלה נעה על משטח ללא חיכוך. העגלה מתחילה במעלה המדרון בגובה H עם מהירות התחלתית v_0 . מצא את מהירות העגלה בתחתית המדרון. נתונים: v_0 , H .

(5) קופסה במדרון עם חיכוך

קופסה יורדת במדרון משופע בעל זווית θ . הנח כי מהירות הקופסה במעלה המדרון היא v_0 וגובה ההתחלתי הוא H . מצא את מהירות העגלה בתחתית המדרון. הנח שהחיכוך הוא רק על החלק המשופע של התנועה. נתונים: H , θ , μ_k , v_0 .

(6) מסה נופלת על קפיץ

קפיץ חסר מסה, בעל קבוע קפיץ של $50 \frac{N}{m}$, מחובר לרצפה. משחררים ממנוחה מסה של $m = 2 \text{ kg}$ הנמצאת בגובה 3 מטר מעל הקפיץ. א. מצא את הכיוון המקסימאלי של הקפיץ. ב. מה הגובה המקסימאלי אליו תגיע המסה לאחר הפגיעה בקפיץ.

(7) שתי מסות מחוברות, מדרון וקפיץ

מסה m_1 נמצאת על מדרון משופע בזווית θ . המסה מונחת על קפיץ בעל קבוע קפיץ k המכווץ ב- $\Delta x = d$. אל המסה קשור חוט העובר דרך גלגלת אידיאלית ומחובר למסה m_2 הנמצאת בגובה H מעל הרצפה. המערכת משוחררת ממנוחה. מצא את מהירות הפגיעה בקרקע של m_2 .

נתון:

$$m_1 = 1 \text{ kg}, m_2 = 2 \text{ kg}$$

$$H = 3 \text{ m}, k = 100 \frac{N}{m}$$

$$\theta = 30^\circ, d = 30 \text{ cm}$$

תשובות סופיות

$$W_T = 135J \quad \text{ד} \quad W_N = W_g = 0 \quad \text{ג} \quad W_{fk} = -4J \quad \text{ב} \quad W = 139J \quad \text{א} \quad (1)$$

$$V_F \approx 7.35 \frac{m}{sec} \quad (2)$$

$$W_C = |\vec{F}| \cdot |\Delta\vec{r}| \cos \alpha = 200J, \quad W_C = -\Delta U = -(U_F - U_i) = 200J \quad (3)$$

$$V_F = \sqrt{v_0^2 + 2gH} \quad (4)$$

$$V_F = \sqrt{v_0^2 + 2gH(1 - \mu_k \cot(\theta))} \quad (5)$$

$$mgH = mgh \quad \text{ב} \quad \Delta x = 2m \quad \text{א} \quad (6)$$

$$V = 5.745 \frac{m}{sec} \quad (7)$$

חישוב עבודה לכוח לא קבוע

רקע

$$W = \int \vec{F} \cdot d\vec{r} = \int (F_x dx + F_y dy + F_z dz)$$

צריך גם משוואה של המסלול

שאלות

1) חישוב עבודה במסלולים שונים

חשב את העבודה שמבצע הכוח $\vec{F} = xx + yxy$ בין הנקודה $A(0,0)$ לנקודה $B(2,4)$:

א. דרך המסלול של הקו הישר המתבר בין הנקודות.

ב. דרך מסלול המקביל לציר ה- x עד לנקודה $C(2,0)$ ולאחר מכן דרך

המסלול המקביל לציר ה- y עד לנקודה B .

ג. דרך המסלול $y = x^2$.

ד. דרך המסלול $x(t) = 2t$, $y(t) = 4t^2$.

2) כוח בשלושה מימדים

נתון הכוח: $\vec{F} = zx^2\hat{x} + xzy\hat{y} + 2yz\hat{z}$.

א. חשב את העבודה של הכוח דרך המסלול היוצא מהנקודה $A(1,2,3)$

עד לנקודה $B(2,3,5)$ כאשר המסלול יוצא מ- A במקביל לציר ה- Y

עד לנקודה $C(1,3,3)$ ולאחר מכן מ- C במקביל לציר ה- Z ועד לנקודה

$D(1,3,5)$ ולאחר מכן מהנקודה D במקביל לציר ה- X עד לנקודה B .

ב. חשב את העבודה של הכוח מהנקודה $A(0,0,-1)$ עד הנקודה $B(4,4,5)$

לאורך המסלול הנתון לפי המשוואות: $x(t) = 2t$; $y(t) = t^2$; $z(t) = 3t - 1$.

תשובות סופיות

$$W_{A \rightarrow B} = 2 + \frac{64}{5} \text{ ג.}$$

$$W_{A \rightarrow B} = 18 \text{ ב.} \quad W_{A \rightarrow B} = \frac{4}{2} + \frac{4 \cdot 8}{3} \text{ א. (1)}$$

$$W_{A \rightarrow B} = 2 + \frac{64}{5} \text{ ד.}$$

$$128\text{J} \text{ ב.} \quad 26.67\text{J} \text{ א. (2)}$$

חישוב כוח משמר מאנרגיה פוטנציאלית

רקע

$$\vec{F} = -\vec{\nabla} \cdot U$$

שאלות

- (1) חישוב עבודה מתוך אנרגיה פוטנציאלית
 על גוף מסוים פועל כוח משמר המתאים לאנרגיה הפוטנציאלית
 הבאה: $U(x, y) = 2x^2 - 6y^3$.
 מצא את העבודה אותה צריך לבצע על מנת להביא את הגוף מהנקודה (1,0)
 אל הנקודה (2,3).

תשובות סופיות

$$W_{\text{ext}} = 156\text{J} \quad (1)$$

איך בודקים האם כוח הוא משמר

רקע

אם ורק אם $\vec{V} \times \vec{F} = 0$, אז הכוח משמר.

הערה: צריך שכל רכיב יתאפס בנפרד

שאלות

(1) דוגמה

נתון הכוח F : $\vec{F} = -2xy\hat{x} + (x^2 - z)\hat{y} + yz\hat{z}$.

בדקו האם הכוח F משמר.

תשובות סופיות

(1) משמר.

הספק ונצילות

רקע

$$P_{avg} = \frac{W}{\Delta t} \quad \text{הספק ממוצע:}$$

W - העבודה

$$P = \frac{dW}{dt} = \vec{F} \cdot \vec{v} \quad \text{הספק רגעי:}$$

F - הכוח ו- v היא מהירות הגוף

$$\eta = \frac{W_{out}}{E_{in}} = \frac{P_{out}}{P_{in}} \quad \text{נצילות:}$$

כאשר out מציין את החלק המנוצל על ידי המערכת ו in מציין את שכל מה שמושקע.

שאלות

(1) כמה עולה להפעיל מזגן

כמה עולה להפעיל מזגן שההספק שלו 1 כוח סוס למשך שעה אחת?
יש לבדוק את תעריף חברת החשמל.

פירוט החיובים / הזיכויים

חשבון דו-חודשי

מספר חשבון חוזה: [מספר]

חשבון לתקופה מ- 13/01/2020 עד 15/03/2020

גבאי מני

עמוד	חיוב בגין צריכה מחח"י (לא כולל מע"מ)								
	קריאת מונה מספר	קריאה נוכחית	קריאה קודמת	ימים לחיוב	תאריך קריאה	קריאה נוכחית	קריאה קודמת	סוג קריאה	
272	502.21	44.84	1120	46267	47387	63	12/01	15/03	רגילה
	502.21	1120							
ש"ח	502.21	1120							סה"כ בגין צריכה

(2) מכונית מאיצה מ-0 ל-100

מכונית מתחילה לנסוע ממנוחה ומגיעה למהירות של 100 קמ"ש ב-10 שניות.
מסת המכונית היא 1 טון. הניחו כי אין חיכוך עם האוויר.

א. מהי העבודה שהתבצעה על המכונית?

ב. מהו ההספק של המנוע בהנחה שהוא קבוע ומנוצל במלואו (הנחה לא נכונה)?

(3) אופנוע נוסע במהירות קבועה כנגד התנגדות אוויר

אופנוע נוסע במהירות קבועה של 100 קמ"ש.

כנגדו פועל כוח ההתנגדות מהאוויר של 300 ניוטון.

מהו ההספק של המנוע, אם נניח שההספק מנוצל במלואו?

4) נצילות של 40 אחוז בדוגמה של המכונת המאיצה
 בדוגמה "מכונת מאיזה מ-0 ל-100" מה ההספק של המנוע אם הנצילות שלו היא 40%?

5) הספק ממוצע לשנות מהירות
 איזה כוח קבוע יש להפעיל על מכונת בעלת מסה של 2 טון,
 כדי לשנות את מהירותה מ- $9 \frac{\text{km}}{\text{hr}}$ ל- $27 \frac{\text{km}}{\text{hr}}$ בתוך 4sec?
 מהו ההספק הממוצע של כוח זה?

6) רכבת צעצוע חשמלית
 רכבת צעצוע חשמלית מורכבת מ-10 קרונות.
 הקרון הראשון והשני מכילים מנוע חשמלי ושוקלים 2 ק"ג כל אחד.
 שאר הקרונות עמוסים בצעצועים ושוקלים 3 ק"ג כל אחד.
 כל אחד מן המנועים מייצר הספק קבוע של 0.2KW.
 א. כמה זמן ייקח לרכבת להגיע למהירות של 10 מטר לשנייה אם התחילה לנוע ממנוחה?
 ב. מהי האנרגיה הקינטית של הקרון הראשון ומהי האנרגיה הקינטית של הקרון השני, כאשר הרכבת נעה במהירות שחישבת בסעיף א'?
 ג. חשב את העבודה שביצע הכוח שפעל בחיבור בין הקרון הראשון לשני על הקרון השני בזמן ההאצה.
 ד. חשב את העבודה שביצע הכוח שפעל בחיבור בין הקרון השני לשלישי על הקרון השלישי בזמן ההאצה.
 ה. הרכבת מגיעה לעלייה עם שיפוע של 2 מעלות, מה צריך להיות הספק המנועים (בהנחה שהם שווים) על מנת שהרכבת תישאר במהירות קבועה של 10 מטר לשנייה?



7) הספק כאשר נתון מיקום כתלות בזמן
 כוח יחיד פועל על גוף שמסתו 4kg, הכוח פועל בכיוון התנועה והמיקום כתלות בזמן של הגוף הוא: $x(t) = 2 + 3t + t^2$ ביחידות m.k.s.
 א. מהי העבודה שמבצע הכוח במשך 3 השניות הראשונות של התנועה?
 ב. מהו ההספק של הכוח ב- $t = 2 \text{ sec}$?

תשובות סופיות

- (1) 45 אגורות.
- (2) א. $\Delta E_k \approx 385,800\text{J} = W_{\Sigma \vec{F}}$ ב. $p = 51.7\text{HP}$
- (3) $p = 11.18\text{HP}$
- (4) 135 כ"ס.
- (5) $F = 2500\text{N}$, $\bar{p} = 16.76\text{HP}$
- (6) א. $\Delta t = 3.5\text{sec}$ ב. $E_{k_1=100\text{J}} = E_{k_2}$ ג. $W_{1 \rightarrow 2} = 600\text{J}$
- ד. $W_{3 \rightarrow 2} = 1200\text{J}$ ה. $p = 97.7\text{W}$
- (7) א. $W = 144\text{J}$ ב. $p(t=2) = 56\text{W}$

תרגילים מסכמים:

שאלות:

1) קפיץ יורה כדור

- הלוע של רובה צעצוע מורכב מקפיץ בעל קבוע k ובוכנה בעלת מסה m_1 . בטעינה דוחפים כדור בעל מסה m_2 ודורכים את הקפיץ. הכיוון של הקפיץ הוא d . ברגע הירי הקפיץ משוחרר ממנוחה.
- א. באיזה רגע הכדור מנתק מגע מהבוכנה?
 ב. מהי מהירות הכדור ברגע הזה?



2) כוח כפונקציה של מיקום, קפיץ וחיכוך*

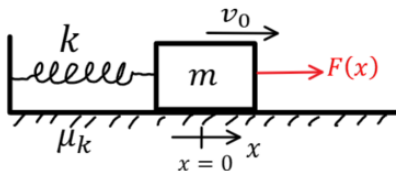
- מסה m נמצאת על משור אופקי לא חלק ומחוברת לקפיץ בעל קבוע k . החל מ- $t = 0$ פועל על המסה כוח התלוי במיקום: $\vec{F}(x) = (30x^2 - 4x)\hat{x}$. כל היחידות בשאלה הן יחידות סטנדרטיות.
- ב- $t = 0$ המסה נמצאת בראשית עם מהירות התחלתית v_0 והקפיץ רפוי.
- נתונים: $m = 2\text{kg}$, $k = 10 \frac{\text{N}}{\text{m}}$, $\mu_k = 0.3$, $v_0 = 5 \frac{\text{m}}{\text{sec}}$.

א. רשמו ביטוי לתאוצת המסה כתלות במיקום $a(x)$, הנח כי התנועה תמיד בכיוון החיובי.

ב. מצאו את המיקום בו התאוצה של המסה מתאפסת.

ג. מהי העבודה שביצע הכוח מתחילת התנועה ועד אשר $x = 0.5\text{m}$?

ד. מהי המהירות של המסה כאשר מיקומה $x = 0.5\text{m}$?



(3) כוח כפונקציה של זמן במישור משופע*

מסה $m = 5\text{kg}$ נמצאת על מישור משופע לא חלק.

על המסה פועל כוח התלוי בזמן $F(t)$ שדוחף אותה במעלה המישור.

מהירות המסה ידועה והיא נתונה לפי הפונקציה: $v(t) = 3t^2 + 2t$.

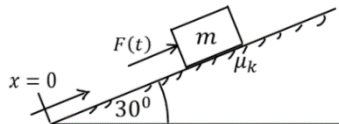
מקדם החיכוך הוא: $\mu_k = 0.2$ ונתון כי: $x(t=0) = 0$.

כל היחידות הן יחידות סטנדרטיות.

זווית המישור היא 30° מעלות.

א. (1) היכן נמצא הגוף ב- $t = 2\text{sec}$?

(2) מהו גודל הכוח F ברגע זה?



ב. מהו מיקום הגוף כאשר תאוצתו היא: $8 \frac{\text{m}}{\text{sec}^2}$?

ג. מהי האנרגיה הקינטית של הגוף ברגע של סעיף ב'?

ד. מהי עבודת הכוח F מרגע $t = 0\text{sec}$ ועד ל- $t = 3\text{sec}$?

(4) קופסה מחליקה על מקטעים ישרים*

קופסה משוחררת ממנוחה ומתחילה להחליק לאורך מסלול שאינו ידוע,

אך מורכב מקטעים ישרים בלבד.

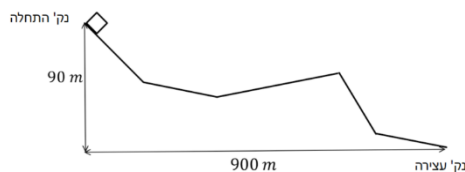
בין הקופסה למשטח עליו היא מחליקה קיים

חיכוך והקופסה נעצרת בנקודה

המרוחקת 900m אופקית ו- 90m מתחת

לנקודה בה התחילה.

חשבו את מקדם החיכוך, לא חסרים נתונים.

**(5) שרשרת על גלגלת**

שרשרת בעלת מסה M ואורך L מונחת על גלגלת

אידיאלית התלויה מהתקרה.

השרשרת מונחת כך שרבע מהשרשרת בצד אחד של

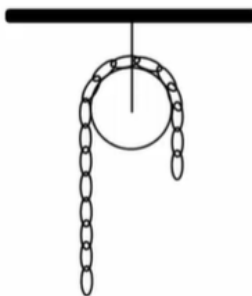
הגלגלת ושאר השרשרת בצד השני.

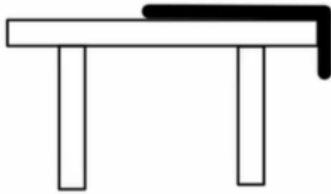
הנח שהחלק על הגלגלת עצמה זניח.

המערכת משוחררת ממנוחה.

מצאו את מהירות השרשרת ברגע שהקצה האחרון

שלה עובר את הגלגלת.



**(6) חבל מחליק משולחן אנרגיה ומשוואת תנועה***

חבל באורך L ומסה M מונח על שולחן חסר חיכוך כך שהקצה של החבל באורך d נשמט מחוץ לשולחן. החבל מוחזק ומשוחרר ממנוחה.

א. רשמו את האנרגיה הקינטית והאנרגיה הפוטנציאלית במהלך החלקת החבל.

ב. השתמשו בשימור אנרגיה ומצאו את משוואת התנועה של החבל.

ג. השתמשו במשוואת התנועה ומצאו את מהירות החלקת כל החבל מהשולחן למטה.

(7) חישוב עבודה של כוח במסלול מעגלי ואלפטי

$$\vec{F} = a(2x + 4y)x + b(4x - 2y)y$$

א. מצא תנאי על a ו- b כך שהכוח יהיה משמר.

ב. מצא את העבודה שעושה הכוח על גוף הנע במסלול סגור לאורך מעגל

המתואר ע"י: $\vec{r} = R \cos \theta x + R \sin \theta y$ כאשר הגוף מתחיל את תנועתו מהנקודה $(R, 0)$.

ג. מצא את העבודה שעושה הכוח על גוף הנע במסלול סגור לאורך אליפסה

המתוארת ע"י: $\vec{r} = d \cos \theta x + k \sin \theta y$ כאשר הגוף מתחיל את תנועתו מהנקודה $(d, 0)$.

**(8) חוט מושך שתי מסות מחוברות בחוט****

חוט חסר מסה באורך $2L$ מחבר שתי מסות הנעות במישור אופקי ללא חיכוך.

כוח אופקי קבוע ונתון מושך את החוט במרכזו, בכיוון מאונך לחוט.

הנח שהמסות מתנגשות ונדבקות בהתנגשות.

כמה אנרגיה הלכה לאיבוד בהתנגשות?

תשובות סופיות:

$$(1) \quad \text{א. בנקודת הרפיון של הקפיץ.} \quad \text{ב. } V = \sqrt{\frac{kd^2}{m_1 + m_2}}$$

$$(2) \quad \text{א. } a_{(x)} = 15x^2 - 7x - 3 \quad \text{ב. } x = 0.738\text{m} \quad \text{ג. } W = 0.75\text{J}$$

$$\text{ד. } V = 4.64 \frac{m}{s}$$

$$(3) \quad \text{א. (1) } x = 12 \quad \text{(2) } F = 103.7\text{N} \quad \text{ב. } x = 2\text{m} \quad \text{ג. } E_k = 62.5\text{J}$$

$$\text{ד. } W = 3935\text{J}$$

$$0.1 \quad (4)$$

$$(5) \quad V = \sqrt{\frac{3gL}{8}}$$

$$(6) \quad \text{א. } E = \frac{1}{2}MV^2 - \frac{M}{2}g\frac{y^2}{2} \quad \text{ב. } \frac{g}{L}y$$

$$\text{ג. } V(y=L) = \sqrt{\frac{g}{L}(L^2 - d^2)}$$

$$(7) \quad \text{א. } \nabla \times \vec{F} = 0 \Rightarrow a = b \quad \text{ב. } W = R^2(0 - 4a\pi + 4b\pi) \quad \text{ג. } W = k \cdot d(0 - 4a\pi + 4b\pi)$$

$$(8) \quad \Delta E = F \cdot l$$

תרגילים מסכמים כולל תנועה מעגלית:

שאלות:

(1) תנאי להשלים סיבוב עם החיכוך במישור משופע

גוף בעל מסה m מחליק על גבי מסילה המתוארת באיור.

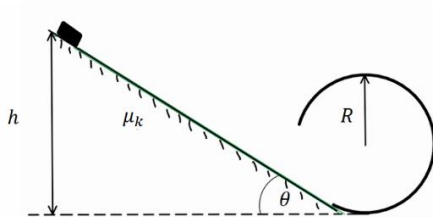
מקדם החיכוך בין הגוף למישור המשופע הוא μ_k .

זווית המישור היא θ .

החלק המעגלי חסר חיכוך.

מצא את h הנמוך ביותר עבורו הגוף ישלים

סיבוב בחלק העגול.



(2) שני חרוזים על טבעת מתרוממת*

טבעת בעלת רדיוס R ומסה M תלויה מהתקרה

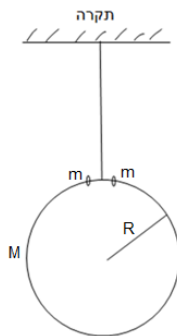
באמצעות חוט. מניחים בקצה העליון של הטבעת שני

חרוזים בעלי מסה m זהה.

החרוזים מתחילים ליפול ממנוחה לשני צדי הטבעת.

מצא את היחס בין המסות הדרוש על מנת שהטבעת

תתרומם במהלך נפילת הכדורים.



(3) מסה מסתובבת על שולחן ונמשכת למרכז*

מסה m נעה על שולחן חסר חיכוך בתנועה מעגלית ברדיוס R ובמהירות v_0 .

חוט קשור אל המסה הולך למרכז השולחן ועובר דרך גלגלת אידיאלית וחור בשולחן.

מושכים את החוט כך שהמסה מתקרבת למרכז.

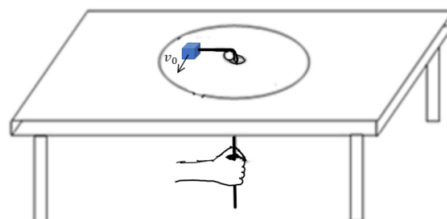
א. מהי המהירות הזוויתית כתלות ב- r (המרחק ממרכז הסיבוב).

השתמשו בשיקולי כוחות בלבד. רמז: אין כוחות בציר $\hat{\theta}$.

ב. הוכיחו שהעבודה שהושקעה במשיכת החוט עד לרדיוס R_2 כלשהו הקטן

מ- R זהה לשינוי באנרגיה הקינטית של המסה.

בסעיף זה ניתן להניח שהמהירות הרדיאלית קבועה.



תשובות סופיות:

$$h_{\min} = \frac{2.5R}{1 - \frac{\mu_k}{\tan \theta}} \quad (1)$$

$$\frac{m}{M} \geq \frac{3}{2} \quad (2)$$

$$\omega(r) = \frac{v_0 R}{r^2} \quad \text{א.} \quad (3)$$

ב. הוכחה.

פיזיקה 1 להנדסת אלקטרוניקה ותכנה 3 שעות שבועיות

פרק 8 - מתקף ותנע-חלק ראשון(רמת מכינה)

תוכן העניינים

101	1. מתקף
102	2. תנע ושימור תנע
106	3. התנגשות אלסטית
107	4. התנגשות פלסטית ורתע
108	5. מקרים מיוחדים
109	6. תרגילים נוספים

מתקף:

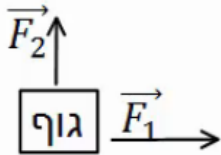
שאלות:

(1) שחקן בועט בכדור

שחקן כדורגל בועט בכדור, הכוח הממוצע שמפעיל השחקן הוא 100 ניוטון בכיוון ציר ה- x .
 זמן המגע של השחקן עם הכדור הוא 0.2 שניות.
 חשב את המתקף שהפעיל השחקן על הכדור.

(2) חישוב מתקף כולל

בציור הבא נתון גוף שפועלים עליו שני כוחות: $\vec{F}_1 = 2\hat{x}$, $\vec{F}_2 = 3\hat{y}$.



זמן הפעולה של שני הכוחות הוא: $\Delta t = 0.5 \text{ sec}$.

א. חשב את המתקף של כל כוח בנפרד.

ב. מצא את וקטור המתקף הכולל. מהו גודלו וכיוונו?

ג. חשב את שקול הכוחות הפועל על הגוף ומצא

באמצעות שקול הכוחות את גודל המתקף הכולל.

תשובות סופיות:

$$\vec{J} = 20\text{N}\hat{x} \quad (1)$$

$$\vec{J}_1 = 1 \cdot \hat{x}, \vec{J}_2 = 1.5 \cdot \hat{y} \quad (2)$$

ב. $(1, 1.5)$, גודל: $|\vec{J}_T| \approx 1.8\text{N}\cdot\text{sec}$, כיוון: $\theta \approx 56.31^\circ$.

ג. $\sum \vec{F} = 2\hat{x} + 3\hat{y}$, גודל: $|\vec{J}_T| \approx 1.8\text{N}\cdot\text{sec}$.

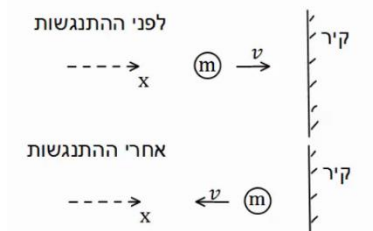
תנע ושימור תנע:

שאלות:

1) כדור מתנגש בקיר

כדור בעל מסה $m = 0.5\text{kg}$ נע במהירות $v = 5 \frac{\text{m}}{\text{sec}}$ בכיוון ציר ה- x .

ברגע מסויים הכדור מתנגש בקיר וחוזר חזרה באותה מהירות. התעלם מכוח הכובד.



א. מהו התנע של הכדור לפני ההתנגשות?

ב. מהו התנע של הכדור לאחר ההתנגשות?

ג. מהו השינוי בתנע?

ד. מהו המתקף שהפעיל הקיר על הכדור?

ה. מהו הכוח הנורמלי הממוצע שהפעיל הקיר

על הכדור, אם משך זמן ההתנגשות היה 0.2 שניה.

2) כדור מתנגש בקיר משופע

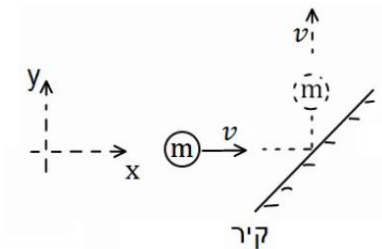
כדור בעל מסה $m = 0.2\text{kg}$ נע במהירות $v = 3 \frac{\text{m}}{\text{sec}}$ בכיוון ציר ה- x .

ברגע מסויים הכדור מתנגש בקיר משופע.

לאחר ההתנגשות הכדור נע בכיוון החיובי של ציר

ה- y באותו גודל של מהירות.

התעלם מכוח הכובד.



א. מהו התנע של הכדור לפני ההתנגשות?

ב. מהו התנע של הכדור לאחר ההתנגשות?

ג. מהו השינוי בתנע?

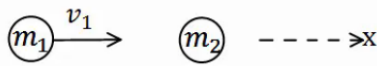
ד. מהו המתקף שהפעיל הקיר על הכדור?

ה. מהו הכוח הנורמלי הממוצע שהפעיל הקיר על הכדור,

אם משך זמן ההתנגשות היה 0.1 שנייה?

(3) כדור מתנגש בכדור במנוחה

כדור 1 בעל מסה $m_1 = 2\text{kg}$ נע במהירות $v_1 = 20 \frac{\text{m}}{\text{sec}}$ בכיוון ציר ה- x .



ברגע מסוים הכדור פוגע בכדור 2 הנמצא במנוחה.

מסת הכדור השני היא $m_2 = 3\text{kg}$.

לאחר הפגיעה, כדור 1 ממשיך במהירות $u_1 = 5 \frac{\text{m}}{\text{sec}}$ בכיוון החיובי של ציר ה- x .

- מהו התנע הכולל לפני ההתנגשות?
- השתמש בחוק שימור התנע ומצא את מהירותו של כדור 2 לאחר ההתנגשות.
- מהו המתקף שפעל על כדור 1?
- מהו המתקף שפעל על כדור 2?
- מהו המתקף שפעל על כל המערכת?

(4) שני כדורים נעים אחד כלפי השני

שני כדורים נעים אחד כלפי השני ומתנגשים ברגע מסוים. מסות הכדורים והמהירות שלהם לפני ההתנגשות



הן: $v_1 = 10 \frac{\text{m}}{\text{sec}}$, $v_2 = 15 \frac{\text{m}}{\text{sec}}$, $m_1 = 4\text{kg}$, $m_2 = 3\text{kg}$.

מהירותו של כדור 2 לאחר ההתנגשות היא: $u_2 = 12 \frac{\text{m}}{\text{sec}}$, בכיוון הפוך למהירותו לפני ההתנגשות.

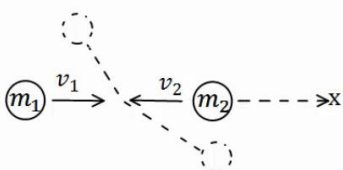
הנח שההתנגשות היא מצחית (כלומר, שהכדורים נשארים על אותו ציר לאחר ההתנגשות).

- מהו התנע הכולל לפני ההתנגשות?
- השתמש בחוק שימור התנע ומצא את מהירותו של כדור 1 לאחר ההתנגשות.
- מהו המתקף שפעל על כדור 1?
- מהו המתקף שפעל על כדור 2?
- מהו המתקף שפעל על כל המערכת?

(5) התנגשות דו-מימדית

שני כדורים נעים אחד כלפי השני על ציר ה- x .

מהירויות הכדורים ומסותיהן הן: $v_1 = 10 \frac{\text{m}}{\text{sec}} \hat{x}$, $v_2 = -5 \frac{\text{m}}{\text{sec}} \hat{x}$, $m_1 = 3\text{kg}$, $m_2 = 4\text{kg}$.



הכדורים מתנגשים ולאחר ההתנגשות כדור אחד נע

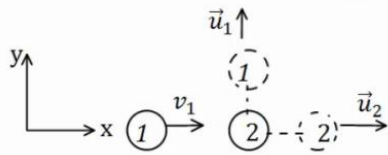
בזווית של 30 מעלות מתחת לציר ה- x וכדור 2 נע

בזווית של 120 מעלות עם ציר ה- x החיובי.

- מצא את גודל מהירויות הכדורים לאחר ההתנגשות.
- מה המתקף שפעל על כל כדור?

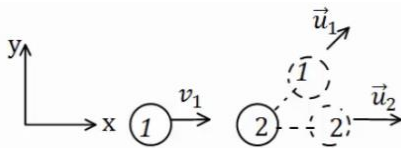
6 איזה התנגשות אפשרית

כדור מספר 1 נע במהירות חיובית על ציר ה- x .
ברגע מסוים הוא מתנגש בכדור מספר 2 הנמצא במנוחה.
נתון כי לאחר ההתנגשות מהירותו של כדור 2



היא בכיוון ציר ה- x .

א. האם יתכן כי מהירותו של כדור 1
לאחר ההתנגשות היא רק בכיוון ציר ה- y ?



ב. האם יתכן כי מהירותו לאחר ההתנגשות
היא בזווית של 30 מעלות עם ציר ה- x ?

ג. האם יתכן שכדור מספר 1 נע בכיוון החיובי
של ציר ה- x לאחר ההתנגשות?

ד. האם יתכן כדור מספר 1 נע בכיוון השלילי של ציר ה- x לאחר ההתנגשות?

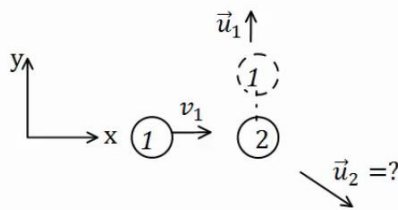
ה. האם יתכן ששני הכדורים נעים בכיוון השלילי של ציר ה- x לאחר ההתנגשות?

7 מציאת המהירות של כדור 2

כדור מספר 1 נע בכיוון החיובי של ציר ה- x .

מסתו היא $m_1 = 3\text{kg}$ ומהירותו היא $v_1 = 12 \frac{\text{m}}{\text{sec}} \hat{x}$.

הכדור פוגע בכדור מספר 2 שמסתו היא $m_2 = 4\text{kg}$
הנמצא במנוחה.



מהירותו של כדור 1 לאחר ההתנגשות היא $u_1 = 8 \frac{\text{m}}{\text{sec}}$ (בכיוון ציר ה- y החיובי בלבד).

א. מצא את וקטור המהירות של כדור 2 לאחר ההתנגשות.

ב. מהו גודלה של המהירות ומהו כיוונה?

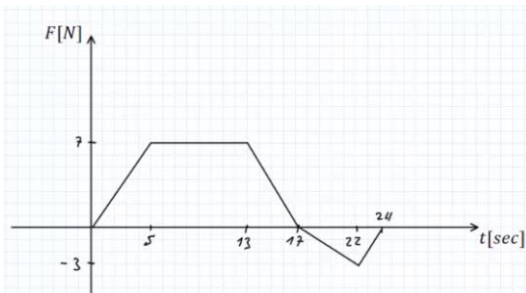
8 גרף של כוח כתלות בזמן

גוף בעל מסה של 2kg נע לאורך קו ישר

בהשפעת כוח המשתנה בזמן.

גודלו של הכוח כתלות בזמן נתון בגרף.

הגוף התחיל תנועתו ממנוחה.



א. מצא את המתקף שפעל על הגוף עד

ל- $t = 17\text{sec}$, מהי מהירות הגוף באותו הרגע?

ב. מצא את המתקף שפעל על הגוף עד לרגע $t = 24\text{sec}$, מהי מהירות הגוף

באותו הרגע?

ג. מהו המתקף שפעל על הגוף במשך הזמן $17\text{sec} < t < 24\text{sec}$?

מה משמעות הסימן של המתקף?

תשובות סופיות:

$$\Delta \vec{p} = -5\text{kg} \frac{\text{m}}{\text{sec}} \hat{x} \quad \text{ג.} \quad \vec{p} = -2.5\text{kg} \frac{\text{m}}{\text{sec}} \hat{x} \quad \text{ב.} \quad \vec{p} = 2.5\text{kg} \frac{\text{m}}{\text{sec}} \hat{x} \quad \text{א.} \quad (1)$$

$$\vec{N} = -25\text{kg} \frac{\text{m}}{\text{sec}^2} \hat{x} = -25\text{N} \hat{x} \quad \text{ה.} \quad \vec{J}_T = \vec{J}_N = \Delta \vec{p} = -2.5\text{kg} \frac{\text{m}}{\text{sec}} \hat{x} \quad \text{ד.}$$

$$(-0.6, 0.6) \quad \text{ג.} \quad \vec{p} = 0.6\text{kg} \frac{\text{m}}{\text{sec}} \hat{y} \quad \text{ב.} \quad \vec{p} = 0.6\text{kg} \frac{\text{m}}{\text{sec}} \hat{x} \quad \text{א.} \quad (2)$$

$$\vec{N} = (-6, 6)\text{N} \quad \text{ה.} \quad \vec{J}_N = (-0.6, 0.6)\text{kg} \frac{\text{m}}{\text{sec}} \quad \text{ד.}$$

$$\vec{J}_{T1} = -30\hat{x}\text{N} \cdot \text{sec} \quad \text{ג.} \quad \vec{u}_2 = 10 \frac{\text{m}}{\text{sec}} \hat{x} \quad \text{ב.} \quad \vec{p}_T = 40\hat{x}\text{N} \cdot \text{sec} \quad \text{א.} \quad (3)$$

$$0 \quad \text{ה.} \quad \vec{J}_{T2} = 30\hat{x}\text{N} \cdot \text{sec} \quad \text{ד.}$$

$$\vec{J}_1 = -81\hat{x}\text{N} \cdot \text{sec} \quad \text{ג.} \quad u_1 = -10.25 \frac{\text{m}}{\text{sec}} \quad \text{ב.} \quad \vec{p}_T = -5\hat{x}\text{N} \cdot \text{sec} \quad \text{א.} \quad (4)$$

$$0 \quad \text{ה.} \quad \vec{J}_2 = 81\hat{x}\text{N} \cdot \text{sec} \quad \text{ד.}$$

$$\vec{J}_1 = (-14.97, -8.67) \quad \text{ב.} \quad u_1 = 5.78 \frac{\text{m}}{\text{sec}}, u_2 = 2.5 \frac{\text{m}}{\text{sec}} \quad \text{א.} \quad (5)$$

$$\text{א. לא.} \quad \text{ב. לא.} \quad \text{ג. כן.} \quad \text{ד. כן.} \quad \text{ה. לא.} \quad (6)$$

$$\vec{u}_2 = (9, -6) \frac{\text{m}}{\text{sec}} \quad \text{א.} \quad \text{ב. גודל: } |\vec{u}_2| \approx 10.82 \frac{\text{m}}{\text{sec}}, \text{ כיוון: } \theta = 33.69^\circ. \quad (7)$$

$$J = 87.5\text{N} \cdot \text{sec}, v_F(t = 17\text{sec}) = 43.75 \frac{\text{m}}{\text{sec}} \quad \text{א.} \quad (8)$$

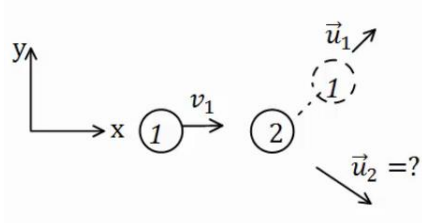
$$J = 77\text{N} \cdot \text{sec}, v(t = 24\text{sec}) = 38.5 \frac{\text{m}}{\text{sec}} \quad \text{ב.}$$

ג. $J_{17 < t < 24} = -10.5$, המשמעות של הסימן שהכוח שמפעיל את המתקף פועל בכיוון השלילי.

התנגשות אלסטית:

שאלות:

(1) התנגשות אלסטית

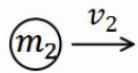
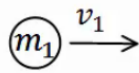


כדור בעל מסה $m_1 = 2\text{kg}$ פוגע בכדור שני הנמצא במנוחה. מהירותו של הכדור הראשון לפני ההתנגשות היא $v_1 = 20 \frac{\text{m}}{\text{sec}}$.

נתון כי מהירותו של הכדור הראשון לאחר ההתנגשות היא $u_1 = 10 \frac{\text{m}}{\text{sec}}$ בזווית של 45 מעלות ביחס לכיוון פגיעתו.

מצא את מהירות הכדור השני ומסתו, אם ידוע שההתנגשות היא אלסטית.

(2) התנגשות אלסטית מצחית



גוף בעל מסה $m_1 = 5\text{kg}$ נע על ציר ה- x ומתנגש בגוף אחר בעל מסה $m_2 = 8\text{kg}$, הנע על ציר ה- x גם כן.

מהירויות הגופים לפני ההתנגשות הן: $v_1 = 20 \frac{\text{m}}{\text{sec}} \hat{x}$, $v_2 = 5 \frac{\text{m}}{\text{sec}} \hat{x}$. בהתאמה.

ידוע שההתנגשות היא פלסטית ומצחית. מצא את מהירויות הגופים לאחר ההתנגשות.

תשובות סופיות:


$$(1) \text{ מסה: } m_2 \approx 1.45\text{kg}, \text{ מהירות: } u_{2y} = -9.75 \frac{\text{m}}{\text{sec}}, u_{2x} = 17.86 \frac{\text{m}}{\text{sec}}$$

$$(2) u_2 \approx 16.54 \frac{\text{m}}{\text{sec}}, u_1 = 1.54 \frac{\text{m}}{\text{sec}}$$

התנגשות פלסטית ורתע:

שאלות:

(1) קליע נתקע בבול עץ



קליע נע במהירות $v_1 = 100 \frac{\text{m}}{\text{sec}}$ לעבר בול עץ

הנמצא במנוחה. הקליע חודר לבול העץ ונתקע בתוכו.

מסת הקליע היא $m = 20 \text{ gr}$ ומסת בול העץ היא $M = 5 \text{ kg}$.

מצא את המהירות המשותפת של הגופים לאחר הפגיעה.

(2) קליע נורה מרובה



כדור נורה מרובה הנמצא במנוחה.

מהירות הכדור לאחר הירי היא $u_2 = 100 \frac{\text{m}}{\text{sec}}$, ומסת הכדור היא $m = 20 \text{ gr}$.

מהי מהירות הרובה, אם מסת הרובה היא $M = 3 \text{ kg}$?

(3) טיל מתפרק

טיל טס באוויר במהירות $v = 540 \frac{\text{km}}{\text{hr}}$ בקו ישר, מסת הטיל היא $M = 50 \text{ kg}$.

ברגע מסוים הטיל מתפוצץ לשני חלקים. מסת החלק הראשון היא $m_1 = 20 \text{ kg}$. מצא את מהירות החלק השני במקרים הבאים:

א. מהירות החלק הראשון היא $u_1 = 72 \frac{\text{km}}{\text{hr}}$ בכיוון הפוך לכיוון אליו נע

הטיל לפני הפיצוץ.

ב. מהירות החלק הראשון היא $u_1 = 360 \frac{\text{km}}{\text{hr}}$ בכיוון 30 מעלות

מתחת לכיוון אליו עף הטיל לפני הפיצוץ.

תשובות סופיות:

$$u = \frac{2}{5} \frac{\text{m}}{\text{sec}} \quad (1)$$

$$u_2 = -\frac{2}{3} \frac{\text{m}}{\text{sec}} \quad (2)$$

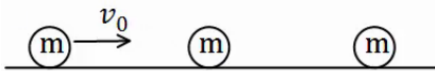
$$u_2 = 948 \frac{\text{km}}{\text{hr}} \quad \text{א.} \quad (3) \quad \text{ב.} \quad u_{2x} \approx 192.3 \frac{\text{m}}{\text{sec}}, \quad u_{2y} = 33.34 \frac{\text{m}}{\text{sec}}$$

מקרים מיוחדים:

שאלות:

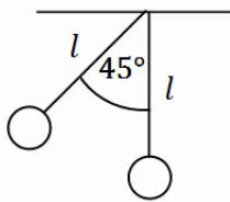
1 פגיעה כפולה

- שלושה כדורים זהים נמצאים על מישור אופקי חלק. הכדור השמאלי נע במהירות v_0 כלפי הכדור האמצעי. מצא את מהירויות כל אחד מהגופים לאחר כל התנגשות, אם:
- כל ההתנגשויות הן אלסטיות מצחיות.
 - כל ההתנגשויות הן פלסטיות.



2 מטוטלת פוגעת במטוטלת

- שני כדורים זהים תלויים באמצעות חוטים בעלי אורך זהה l . מסיתים את הכדור השמאלי בזווית של 45° מעלות ומשחררים אותו ממנוחה.



- מהי מהירותו רגע לפני הפגיעה בכדור הימני?
- מהי מהירות הכדור השמאלי לאחר הפגיעה אם ההתנגשות היא אלסטית?
- מהי הזווית המקסימלית אליה יגיע הכדור לאחר הפגיעה?
- מה יקרה לאחר מכן?
- חזור על סעיפים ב', ג' אם ההתנגשות היא פלסטית.

3 מקדם תקומה

- גוף בעל מסה m נע במהירות v על משטח אופקי חלק ומתנגש בגוף בעל מסה $3m$ הנמצא במנוחה. נתון כי ההתנגשות חד ממדית ומקדם התקומה הוא 0.8 . מצא את מהירות הגופים לאחר ההתנגשות.

תשובות סופיות:

- 1 א. הכדור הראשון והשני מהירותם 0 , והכדור השלישי מהירותו v_0 .

ב. $\bar{u} = \frac{v_0}{3}$

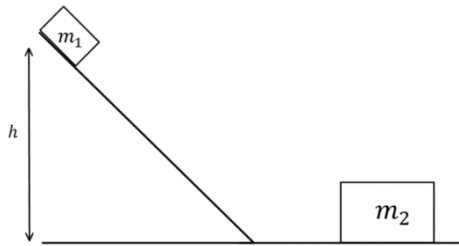
2 א. $v = \sqrt{0.58gl}$ ב. $u_2 = v = \sqrt{0.58gl}$ ג. $\theta_{\max} = 45^\circ$

- ד. התהליך חוזר על עצמו לנצח. ה. (א) $\theta \approx 21.95^\circ$, (ב) $u = \frac{1}{2}v$

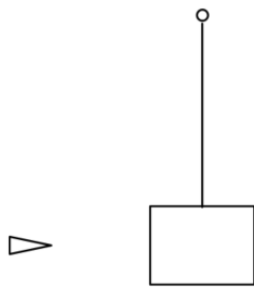
3 $u_1 = -0.35v$, $u_2 = 0.45v$

תרגילים נוספים:

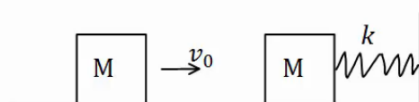
שאלות:



- (1) גוף יורד במדרון מתנגש ועולה חזרה
 גוף בעל מסה $m_1 = 2\text{kg}$ משוחרר ממנוחה על
 מדרון משופע בגובה $h = 1\text{m}$.
 בתחתית המדרון מונח גוף בעל מסה $m_2 = 5\text{kg}$.
 הוגף הראשון פוגע בגוף השני בהגיעו
 למישור האופקי והגופים מתנגשים התנגשות
 אלסטית, עד לאיזה גובה יגיע הגוף הראשון
 בחזרה במעלה המדרון? אין חיכוך בין הגופים למשטחים.

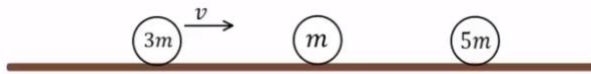


- (2) קליע חודר מטוטלת בליסטית
 בול בעל מסה 2kg קשור לחוט ותלוי אנכית במנוחה.
 קליע בעל מסה 5gr נע במהירות $v_1 = 450 \frac{\text{m}}{\text{sec}}$ פוגע
 בבול העץ, חודר אותו, ויוצא מצידו השני
 במהירות $u_1 = 150 \frac{\text{m}}{\text{sec}}$.
 לאיזה גובה מקסימאלי יגיע בול העץ?



- (3) שתי מסות וקפיץ
 מסה M נעה במהירות v_0 ומתנגשת במסה M נוספת הנמצאת במנוחה.
 המסה הנוספת מחוברת לקפיץ רפוי.
 קבוע הקפיץ, המהירות ההתחלתית והמסות נתונים.
 מצא את הכיוון המקסימלי, אם:
 א. ההתנגשות היא פלסטית.
 ב. ההתנגשות אלסטית.
 ג. חשב את המתקף שפעל על כל גוף בכל אחד מהמקרים.

4) שלושה כדורים

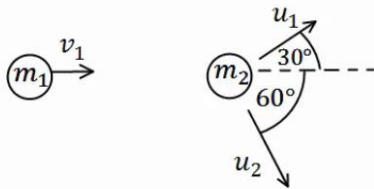


שלושה כדורים מונחים על משטח אופקי חלק כפי שמתואר באיור.

הכדור השמאלי בעל מסה $3m$ נע במהירות v ומתנגש התנגשות אלסטית בכדור בעל מסה m הנמצא במנוחה. שתי שניות לאחר מכן מתנגש הכדור בעל מסה m בכדור בעל מסה $5m$ הנמצא במנוחה התנגשות פלסטית.

- מהי מהירות הכדורים m ו- $3m$ לאחר ההתנגשות הראשונה?
- מהי המהירות המשותפת של הכדורים m ו- $5m$ לאחר ההתנגשות השנייה?
- כמה זמן חלף מרגע ההתנגשות הראשונה עד לרגע ההתנגשות השלישית, זו של הכדור $3m$ בכדורים הדבוקים?

5) איבוד אנרגיה



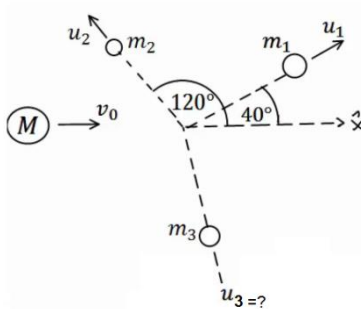
כדור בעל מסה $m_1 = 2\text{kg}$ ומהירות $v_1 = 10 \frac{\text{m}}{\text{sec}}$,

מתנגש בכדור בעל מסה $m_2 = 3\text{kg}$ הנמצא במנוחה.

לאחר ההתנגשות, הכדור הראשון נע בכיוון 30° מעלות מעל לכיוון הפגיעה, והכדור השני נע בזווית 60° מעלות מתחת לכיוון הפגיעה (ראה איור).

- מצא את מהירות הגופים לאחר ההתנגשות.
- האם ההתנגשות אלסטית?
- אם לא, כמה אנרגיה אבדה בהתנגשות?

6) פצצה



פצצה בעלת מסה $M = 13\text{kg}$ נעה באוויר במהירות קבועה $v_0 = 100 \frac{\text{m}}{\text{sec}}$. ברגע מסוים הפצצה מתפוצצת

לשלושה חלקים קטנים יותר.

מסת החלק הראשון היא $m_1 = 4\text{kg}$ והוא נע

במהירות $u_1 = 80 \frac{\text{m}}{\text{sec}}$ בזווית של 40° מעלות ביחס

לכיוון המקורי.

מסת החלק השני היא $m_2 = 2\text{kg}$ והוא נע במהירות $u_2 = 10 \frac{\text{m}}{\text{sec}}$ בזווית של 120°

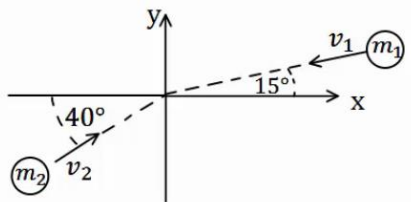
מעלות ביחס לכיוון המקורי. מסת החלק השלישי היא 7kg .

מצא את מהירות החלקיק השלישי.

(7) שני גופים שני מימדים

שני גופים, בעלי מסות: $m_1 = 2\text{kg}$, $m_2 = 3\text{kg}$, נעים לכיוון הראשית.

מהירויות הגופים הן: $v_1 = 10 \frac{\text{m}}{\text{sec}}$, $v_2 = 20 \frac{\text{m}}{\text{sec}}$, בהתאמה, וכיוונם נתון באיור.



הגופים מתנגשים בראשית.

מצא את מהירות הגופים לאחר ההתנגשות, אם:

א. ההתנגשות היא פלסטית.

ב. ההתנגשות היא אלסטית, והגוף נע בכיוון

החיובי של ציר ה- y לאחר ההתנגשות.

(8) כדור גולף על כדורסל

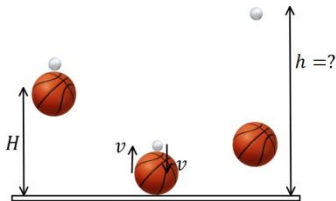
כדור גולף וכדור כדורסל מוחזקים במנוחה אחד מעל השני בגובה $H = 1.5\text{m}$.

משחררים אותם ליפול ממנוחה.

מה יהיה הגובה המרבי אליו יגיע כדור הגולף, אם נניח שכל ההתנגשויות אלסטיות ומצחיות.

מסת כדור הגולף היא $m = 46\text{gr}$,

ומסת הכדורסל היא $M = 624\text{gr}$.

**(9) ארגז בתוך קרונית המתנגשת בקיר**

ארגז שמסתו m מונח בתוך קרונית סגורה

בצמוד לדופן השמאלי של הקרונית.

מסת הקרונית היא $3m$ והיא מתחילה ממנוחה.

מפעילים כוח F קבוע ימינה במשך T שניות.

אין חיכוך בין הקרונית לקרקע.

נתון: F, T, m .

א. מהי מהירות הקרונית בתום הזמן T ?

ב. מהו הכוח N שהארגז מפעיל על הדופן השמאלית של הקרונית?

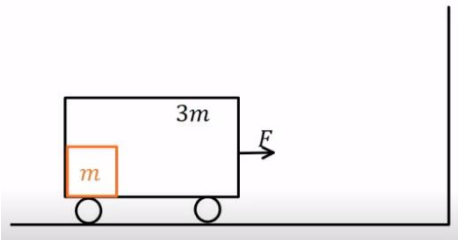
ג. בתום פעולת הכוח הקרונית מתנגשת בקיר התנגשות אלסטית לחלוטין.

הארגז ממשיך את תנועתו מלפני ההתנגשות עד אשר הוא מתנגש בדופן

הימנית של הקרונית התנגשות פלסטית. מהי מהירות הקרונית לאחר

ההתנגשות השנייה בארגז?

ד. כמה אנרגיה הלכה לאיבוד בהתנגשות הפלסטית של הארגז בדופן הימנית?



10) מטוטלת פוגעת במסה שנע במדרון עם קפיץ

גוף בעל מסה $m_1 = 1\text{kg}$ קשור לתקרה באמצעות חוט שאורכו $L = 0.6\text{m}$.

מסיטים את החוט בזווית 50° מהאנך לתקרה ומשחררים ממנוחה.

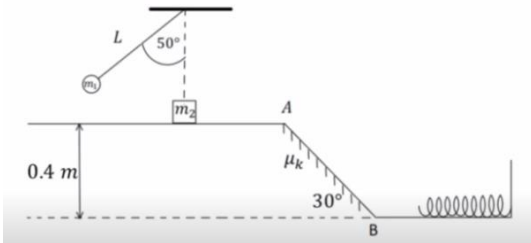
בתחתית המסלול של תנועתו מתנגש הגוף

בגוף שני בעל מסה $m_2 = 2\text{kg}$ הנמצא

במנוחה על משטח אופקי חלק. גובה המשטח

מעל הקרקע הוא 0.4m . מיד לאחר ההתנגשות

גוף 1 מקבל מהירות של $0.4 \frac{\text{m}}{\text{sec}}$ אחורה



וגוף 2 נע קדימה. בנקודה A גוף 2 עובר למישור משופע לא חלק בעל מקדם חיכוך $\mu_k = 0.1$ וזווית שיפוע 30° . בנקודה B גוף 2 חוזר למישור אופקי חלק

בגובה הקרקע ומתנגש בקפיץ בעל קבוע $k = 200 \frac{\text{N}}{\text{m}}$.

א. מהי המהירות של גוף 1 רגע לפני ההתנגשות?

ב. מהי המהירות של גוף 2 מיד לאחר ההתנגשות?

ג. מהי המהירות של גוף 2 בנקודה B?

ד. מהי ההתכווצות המקסימלית של הקפיץ?

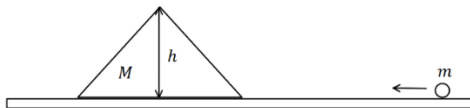
ה. מהי המהירות של גוף 2 כאשר הקפיץ מכווץ בחצי מהכיוון המקסימלי?

11) כדור עולה על מדרון משולש

מדרון משולש בעל גובה $h = 3\text{m}$ חופשי לנוע מעל משטח אופקי חלק

(ללא חיכוך). מסת המדרון היא: $M = 15\text{kg}$.

מגלגלים כדור בעל מסה $m = 5\text{kg}$



על המשטח לכיוון המדרון. התייחס לכדור כאל גוף נקודתי.

א. מה צריכה להיות המהירות שבה מגלגלים את הכדור כך שהוא יעצור

(ביחס למדרון) בדיוק לפני שהוא עובר את שיא הגובה של המדרון?

ב. מהי המהירות המדרון ברגע שהכדור מגיע לשיא הגובה?

ג. מהי המהירות הסופית של המדרון והכדור?

12) קפיץ נמשך משתי קצותיו

על שולחן אופקי חלק מונחים שני גופים בעלי מסות $M = 5\text{kg}$ ו- $m = 3\text{kg}$

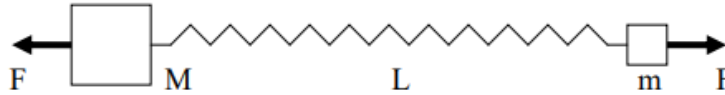
המחוברים לקצותיו של קפיץ בעל קבוע כוח $k = 150 \frac{\text{N}}{\text{m}}$ ואורך חופשי $l_0 = 0.4\text{m}$.

על הגופים פועלים שני כוחות, F , שווים בגודלם והפוכים בכיוונם.

המערכת נמצאת במנוחה כאשר הקפיץ מתוח ואורכו הוא L (ראה ציור).

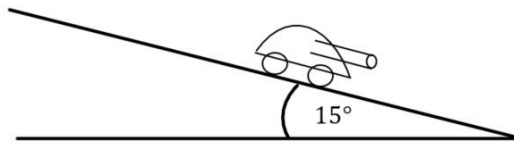
א. מה תהיה המתיחות וההתארכות בקפיץ כאשר $F = 15\text{N}$?

- ב. במקרה אחר, משחררים את המערכת ממצב של מנוחה כאשר $L = 0.6\text{m}$
 ו- F לא ידוע. מה יהיה אורכו של הקפיץ כאשר מגיע להתכווצותו
 המקסימלית לאחר השחרור?
 ג. בסעיף ב', מה תהיה המהירות המקסימלית של M לאחר השחרור?



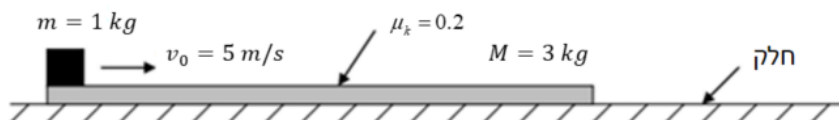
13) טנק יורה פגזים ועולה במדרון**

טנק שמסתו 800 ק"ג (טנק קל מאוד) נמצא ברגע מסוים במנוחה על מדרון משופע בזווית של 15 מעלות. הטנק יורה שני פגזים במרווח של 2 שניות בין הירי הראשון לשני. מסת כל פגז היא 20 ק"ג והוא נורה במהירות לוע של 400 מטר לשנייה במקביל ובמורד למדרון. הניחו שלטנק גלגלים והחיכוך בינו למדרון זניח. מה ההעתק המקסימאלי שיעשה הטנק במעלה המדרון?



14) קובייה נעה על לוח שזז***-כולל תנועה יחסית

- קובייה קטנה שמסתה $m = 1\text{kg}$ נמצאת על לוח ארוך שמסתו $M = 3\text{kg}$ כמוראה בציור. הלוח נמצא על שולחן אופקי חלק (ללא חיכוך) ובזמן $t = 0$ מהירותו היא אפס יחסית לשולחן. באותו זמן ($t = 0$) הקובייה נעה על הלוח במהירות $v_0 = 5 \frac{\text{m}}{\text{sec}}$ יחסית ללוח ובכיוון ימינה. מקדם החיכוך הקינטי בין הקובייה ללוח הוא $\mu_k = 0.2$. כעבור זמן מסוים נעצרת הקובייה על הלוח (לפני שהיא מגיעה לקצהו), כך ששניהם נעים יחד באותה מהירות על השולחן.
- א. חשבו את המהירות המשותפת של הקובייה והלוח, לאחר עצירת הקובייה על הלוח ביחס למעבדה.
- ב. מהו הכוח האופקי הפועל על הקובייה עד לעצירתה על הלוח (גודל וכיוון)?
- ג. מהו הכוח האופקי הפועל על הלוח עד לעצירת הקובייה על הלוח (גודל וכיוון)?
- ד. מהי תאוצת הקובייה ביחס למעבדה ומהי תאוצת הקובייה ביחס ללוח?
- ה. מהו המרחק שעברה הקובייה ביחס ללוח עד לעצירתה ביחס אליו?



תשובות סופיות:

0.18m (1)

0.028m (2)

$$\Delta x_{\max} = \sqrt{\frac{m}{k} v_0^2} \quad \text{ב.} \quad \Delta x_{\max} = \sqrt{\frac{m}{k} \cdot \frac{1}{2} v_0^2} \quad \text{א.} \quad (3)$$

$$\vec{J}_1 = -mv_0 \hat{x}, \vec{J}_2 = mv_0 \hat{x} \quad \text{ב.} \quad \vec{J}_1 = -\frac{1}{2}mv_0 \hat{x}, \vec{J}_2 = \frac{1}{2}mv_0 \hat{x} \quad \text{א.} \quad \text{ג.}$$

$$t = 10 \text{sec} \quad \text{ג.} \quad u = \frac{1}{4}v \quad \text{ב.} \quad u_2 = \frac{3}{2}v, u_1 = \frac{1}{2}v \quad \text{א.} \quad (4)$$

$$Q = 8.27 \text{J} \quad \text{א, לא} \quad \text{ב.} \quad u_1 = 8.66 \frac{\text{m}}{\text{sec}}, u_2 = 3.34 \frac{\text{m}}{\text{sec}} \quad \text{א.} \quad (5)$$

$$u_{3x} \approx 152 \frac{\text{m}}{\text{sec}}, u_{3y} \approx -32 \frac{\text{m}}{\text{sec}} \quad (6)$$

$$u_x \approx -3.13 \frac{\text{m}}{\text{sec}}, u_y \approx 1.79 \frac{\text{m}}{\text{sec}} \quad \text{א.} \quad (7)$$

$$u_{1x} \approx -7.83 \frac{\text{m}}{\text{sec}}, u_{1y} \approx -15.20 \frac{\text{m}}{\text{sec}}, u_2 = 13.11 \frac{\text{m}}{\text{sec}} \quad \text{ב.}$$

h ≈ 12.3m (8)

$$E = \frac{3F^2T^2}{32m} \quad \text{ד.} \quad \bar{u} = \frac{FT}{8m} \quad \text{ג.} \quad N = \frac{F}{4} \quad \text{ב.} \quad v(T) = \frac{F}{4m}T \quad \text{א.} \quad (9)$$

$$v_B = 2.853 \frac{\text{m}}{\text{sec}} \quad \text{ג.} \quad u_2 \approx 1.235 \frac{\text{m}}{\text{sec}} \quad \text{ב.} \quad v = 2.07 \frac{\text{m}}{\text{sec}} \quad \text{א.} \quad (10)$$

$$v = 2.47 \frac{\text{m}}{\text{sec}} \quad \text{ה.} \quad \Delta l_{\max} \approx 0.285 \text{m} \quad \text{ד.}$$

$$u_1' = 2\sqrt{5} \frac{\text{m}}{\text{sec}}, u_2' = -2\sqrt{5} \frac{\text{m}}{\text{sec}} \quad \text{ג.} \quad u = \sqrt{5} \frac{\text{m}}{\text{sec}} \quad \text{ב.} \quad v_0 = 8.94 \frac{\text{m}}{\text{sec}} \quad \text{א.} \quad (11)$$

$$0.74 \frac{\text{m}}{\text{sec}} \quad \text{ג.} \quad 0.2 \text{m} \quad \text{ב.} \quad 0.1 \text{m}, 15 \text{N} \quad \text{א.} \quad (12)$$

60m (13)

$$2 \text{N} \text{ ימינה.} \quad \text{ג.} \quad 2 \text{N} \text{ שמאלה.} \quad \text{ב.} \quad 1.25 \frac{\text{m}}{\text{sec}} \quad \text{א.} \quad (14)$$

$$4.7 \text{m} \quad \text{ה.} \quad -\frac{8}{3} \frac{\text{m}}{\text{sec}^2} \quad \text{ד.}$$

פיזיקה 1 להנדסת אלקטרוניקה ותכנה 3 שעות שבועיות

פרק 9 - מתקף ותנע - חלק שני

תוכן העניינים

115	1. חלק שני הסברים ונוסחאות.
116	2. שימור תנע בהתנגשויות קצרות.
117	3. התנגשויות קצרות ללא שימור תנע.
118	4. תרגילים מסכמים.

חלק שני הסברים ונוסחאות:

שאלות:

(1) חישוב מתקף של כוח לא קבוע

כוח התלוי בזמן $\vec{F}(t) = At^2\hat{x}$ פועל על גוף הנמצא במנוחה, A הוא פרמטר קבוע ונתון.

א. מצא את המתקף שהפעיל הכוח על הגוף בחמש השניות הראשונות של התנועה.

ב. מצא את מהירות הגוף לאחר חמש שניות אם מסת הגוף היא: $m = 2\text{kg}$ וידוע כי אין כוחות אחרים הפועלים על הגוף.

תשובות סופיות:

$$(1) \quad \text{א. } \vec{J} = \frac{125A}{3}\hat{x} \quad \text{ב. } \vec{v} = \frac{125A}{6}\hat{x}$$

שימור תנע בהתנגשויות קצרות:

שאלות:

(1) זיקוק מתפוצץ

זיקוק נורה לאוויר בכיוון אנכי לקרקע. ברגע שהזיקוק מגיע לשיא הגובה הוא מתפוצץ לשלושה חלקים שווים בגודלם. משך זמן הפיצוץ הוא: 0.5 sec .

מהירות החלק הראשון לאחר הפיצוץ היא: $50 \frac{\text{m}}{\text{sec}}$ ומהירות החלק השני

היא: $20 \frac{\text{m}}{\text{sec}} \hat{x} - 10 \frac{\text{m}}{\text{sec}} \hat{y} + 50 \frac{\text{m}}{\text{sec}} \hat{z}$.

מהי מהירות החלק השלישי?

תשובות סופיות:

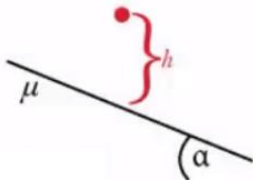
$$\vec{u}_3 = 70\hat{x} - 25\hat{y} + 50\hat{z} \quad (1)$$

התנגשויות קצרות ללא שימור תנע:

שאלות:

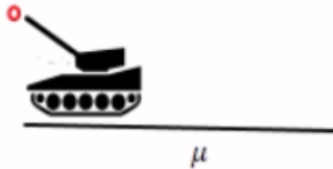
(1) התנגשות קצרה במדרון

כדור בעל מסה m נופל אל מדרון לפי המתואר בשרטוט. נתון כי הכדור אינו מתרומם חזרה מעל המדרון לאחר הפגיעה. מצא את מהירות הכדור רגע לאחר הפגיעה.



(2) טנק וחיכוך קינטי

טנק בעל מסה M יורה פגז בעל מסה m בזווית α מעל האופק במהירות V . הטנק מוצב על מישור בעל מקדם חיכוך קינטי נתון. מה תהיה מהירותו של הטנק רגע לאחר הירייה?



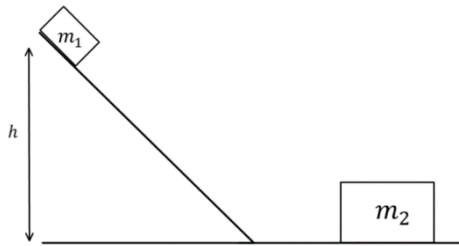
תשובות סופיות:

$$u_p = \frac{m\sqrt{2gh} \sin \theta - \mu m\sqrt{2gh} \cos \theta}{m} \quad (1)$$

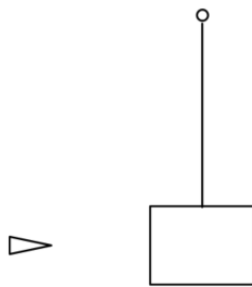
$$u = \frac{mv \cos \alpha - \mu mv \sin \alpha}{M} \quad (2)$$

תרגילים מסכמים:

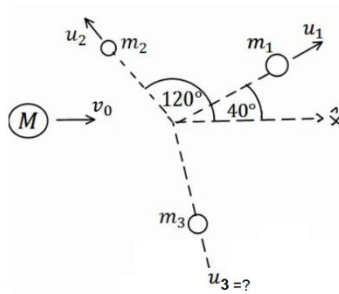
שאלות:



- (1) גוף יורד במדרון מתנגש ועולה חזרה
 גוף בעל מסה $m_1 = 2\text{kg}$ משוחרר ממנוחה על
 מדרון משופע בגובה $h = 1\text{m}$.
 בתחתית המדרון מונח גוף בעל מסה $m_2 = 5\text{kg}$.
 הגוף הראשון פוגע בגוף השני בהגיעו
 למישור האופקי והגופים מתנגשים התנגשות
 אלסטית, עד לאיזה גובה יגיע הגוף הראשון
 בחזרה במעלה המדרון? אין חיכוך בין הגופים למשטחים.

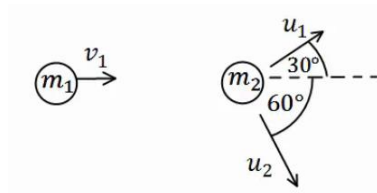


- (2) קליע חודר מטוטלת בליסטית
 בול עץ בעל מסה 2kg קשור לחוט ותלוי אנכית במנוחה.
 קליע בעל מסה 5gr נע במהירות $v_1 = 450 \frac{\text{m}}{\text{sec}}$ פוגע
 בבול העץ, חודר אותו, ויוצא מצידו השני
 במהירות $u_1 = 150 \frac{\text{m}}{\text{sec}}$.
 לאיזה גובה מקסימאלי יגיע בול העץ?



- (3) פצצה
 פצצה בעלת מסה $M = 13\text{kg}$ נעה באוויר במהירות
 קבועה $v_0 = 100 \frac{\text{m}}{\text{sec}}$. ברגע מסוים, הפצצה מתפוצצת
 לשלושה חלקים קטנים יותר.
 מסת החלק הראשון היא: $m_1 = 4\text{kg}$ והוא נע
 במהירות $v_1 = 80 \frac{\text{m}}{\text{sec}}$ בזווית של 40° ביחס לכיוון המקורי.
 מסת החלק השני היא: $m_2 = 2\text{kg}$ והוא נע במהירות $v_2 = 10 \frac{\text{m}}{\text{sec}}$ בזווית של 120°
 ביחס לכיוון המקורי.
 מסת החלק השלישי היא: 7kg .
 מצא את מהירות החלק השלישי.

4) איבוד אנרגיה



כדור בעל מסה $m_1 = 2\text{kg}$ ומהירות $v_1 = 10 \frac{\text{m}}{\text{sec}}$

מתנגש בכדור בעל מסה $m_2 = 3\text{kg}$ הנמצא במנוחה.

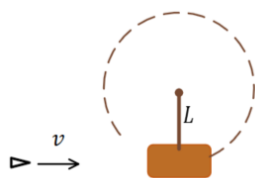
לאחר ההתנגשות הכדור הראשון נע בכיוון 30°

מעל לכיוון הפגיעה, והכדור השני נע בזווית 60° מתחת לכיוון הפגיעה (ראה איור).

א. מצא את מהירות הגופים לאחר ההתנגשות.

ב. האם ההתנגשות אלסטית? אם לא - כמה אנרגיה נאבדה בהתנגשות?

5) קליע חודר בול עץ וגורם לסיבוב אנכי (כולל תנועה מעגלית)



בול עץ בעל מסה M תלוי אנכית באמצעות מוט קשיח

חסר מסה באורך L . המוט ביחד עם בול העץ יכולים

להסתובב במעגל אנכי (ראה איור).

יורים קליע בעל מסה m במהירות אופקית v לעבר בול העץ.

הקליע חודר את הבול ויוצא מצידו השני במהירות v_f .

יחד עם הקליע יוצאת גם חתיכה מהעץ (במהירות הקליע) ובמסה של 5 אחוז

ממסת בול העץ.

מהי המהירות המינימלית של הכדור עבורה בול העץ יוכל להשלים סיבוב אנכי

(שימו לב שהמוט קשיח)?

6) אדם יורד מכדור פורח



אדם נמצא בכדור פורח בגובה קבוע באוויר.

משקלו של האדם הוא 70 ק"ג ומסתו של הכדור פורח

(ללא האדם) היא 280 ק"ג (כולל הסל וכל אביזר אחר בכדור).

האדם משלשל חבל מהסל של הכדור פורח ומתחיל לרדת

באמצעות החבל כלפי מטה.

א. אם מהירותו של האדם בזמן הירידה בחבל היא 3 מטר

לשנייה כלפי מטה וביחס לקרקע, מהי המהירות של

הכדור פורח (גודל וכיוון)?

ב. מהי מהירות הכדור פורח אם האדם נעצר לפתע באמצע


(לפני שהוא מגיע לקרקע)?

(7) מסה על קרונית ואיבוד אנרגיה

נתון כוח F קבוע המושך עגלה בעלת מסה m_1 ללא חיכוך.

מעל העגלה נמצאת מסה m_2 ובין המסות יש חיכוך.

נתון: $\mu_s, \mu_k, F, m_1, m_2$.



א. מה הכוח F המקסימאלי עבורו המסה העליונה תחליק ביחס לתחתונה?

ב. מה הכוח F גדול מזה שחישבת בסעיף א'.

נניח גם כי הכוח הפועל במשך זמן T נתון והמסה העליונה אינה נופלת מהתחתונה.

ג. מהי תאוצת הגופים, מהירותם ומיקומם כפונקציה של הזמן עד לזמן T ?

ד. כמה אנרגיה הלכה לאיבוד בזמן הזה?

ה. מצא את מהירותם הסופית של הגופים (ב- $t > T$) בהנחה שהמסה העליונה עדיין לא נופלת.

(8) מסה על שני קרונות

נתונים שני קרונות על משטח חלק.

הקרן הימני במנוחה והקרן השמאלי נע לעברו במהירות v .

על הקרון השמאלי מונחת מסה הנעה יחד עד הקרון.

מקדם החיכוך בין המסה לקרון הימני נתונה.

בין המסה לקרון השמאלי אין חיכוך.

בזמן $t = 0$ הקרון השמאלי פוגע בקרון הימני

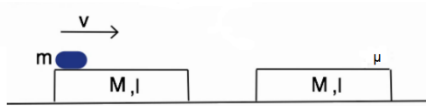
ונצמד אליו (אך הוא יכול להיפרד ממנו לאחר מכן).

א. מתי תעבור המסה לקרון הימני?

ב. מה תהיה מהירותו הסופית של הקרון הימני?

ג. מהי תאוצת הקרון הימני? כמה זמן תאוצה זו נמשכת?

ד. האם סעיף ב' וג' תואמים בתשובותיהם?

**(9) מסות שומרות תנע ונדבקות לקיר**

המסה m מונחת על גבי הקרונית M (אך אינה מחוברת אליה).

שתי המסות נעות יחד במהירות v על גבי משטח

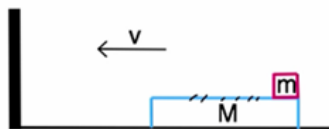
חלק לעבר קיר. התנגשות בקיר אלסטית.

מקדם החיכוך בין המסות הוא μ .

א. מה תהיה מהירות המסה M לאחר זמן

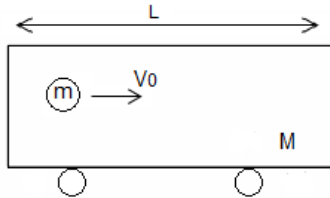
רב בהנחה שהיא גדולה מהמסה m .

ב. ענה על סעיף א' בהנחה שהמסה M קטנה מהמסה m .



10) כדור בקרונית

כדור בעל מסה m ומהירות v_0 נע בתוך קרונית בעלת מסה $M = \alpha m$ ואורך L . הכדור מתנגש בדופן הימנית של הקרונית התנגשות אלסטית. (אין חיכוך בין הקרונית לרצפה).



א. מהי מהירות הגופים לאחר ההתנגשות?

בדוק עבור: $\alpha = 0, 1, \infty$.

ב. כמה זמן יעבור מהפגיעה הראשונה בדופן לפגיעה השנייה בדופן השמאלית?

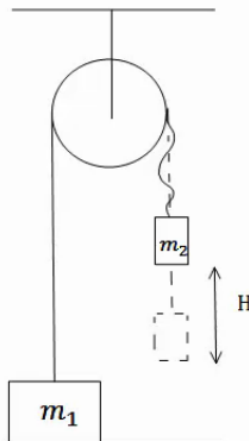
11) שתי מסות על גלגלת וחוט רפוי

שתי מסות m_1, m_2 תלויות על גלגלת אידיאלית חסרת חיכוך.

המסה m_1 נמצאת על הקרקע במנוחה בעוד שהמסה m_2 תלויה באוויר.

מרימים את מסה m_2 גובה H נוסף כך שהחוט מתרופף ומשחררים אותה ממנוחה.

א. מצא את מהירות המסה m_2 לפני שהיא מגיעה לנקודה בה החוט נמתח.



ב. כעת החוט נמתח. הנח שהחוט אינו אלסטי,

כלומר, האורך שלו קבוע ללא תלות בגודל המתיחות שלו כל עוד קיימת בו מתיחות כלשהי (והוא אינו רפוי כמו בסעיף א').

מצא את השינוי הכולל בתנע של שתי המשקולות (בין הקטע מיד לפני שהחוט נמתח לבין הקטע מיד אחרי שהחוט מתוח ושתי המסות זזות).

ג. מצא את המתקף שהפעילה התקרה על הגלגלת בזמן מתיחות החוט.

ד. לאיזה גובה תעלה m_1 בהנחה ש- $m_1 > m_2$ ו- m_2 אינה פוגעת ברצפה.

ה. מהו המתקף שמפעילה התקרה על הגלגלת מהרגע $t = 0$

ועד לרגע בו m_1 הגיעה לשיא הגובה?

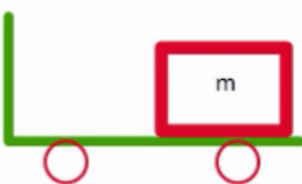
12) מסה מתנגשת במשאית ונופלת

מסה m מונחת על עגלה חסרת חיכוך בעלת אורך L

ומסה $5m$. המסה נוסעת במהירות v לכיוון שמאל והעגלה נייחת.

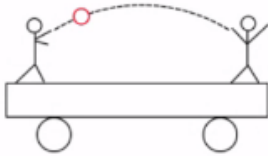
נתון כי ההתנגשות בין המסה לבין העגלה היא התנגשות אלסטית.

לאחר כמה זמן מרגע ההתנגשות תיפול המסה מהעגלה?



13) רתע בתוך עגלה

בתוך עגלה ללא חיכוך עומדים שני חברים המקובעים לרצפת הקרון. מסת האנשים והקרון M ואורך הקרון L .



האדם זורק כדור בעל מסה m במהירות v אל עבר חברו.

א. מה תהיה מהירות העגלה והאנשים שעליה לאחר זריקת הכדור?

ב. מה תהיה מהירות העגלה לאחר שהחבר יתפוס את הכדור?

ג. כמה זמן הכדור ישהה באוויר?

ד. מהו המרחק אותו עברה העגלה במהלך זמן זה?

ה. תאר מה יקרה אם החבר ימסור חזרה את הכדור לחברו.

14) אדם הולך על עגלה (מכיל תנועה יחסית)

אדם בעל מסה M עומד על עגלה בעלת מסה m .

האדם מתחיל ללכת במהירות v_R ביחס לעגלה.

מצא את מהירות האדם והעגלה ביחס לקרקע אם אין חיכוך בין העגלה לרצפה.

15) אדם על רמפה (מכיל תנועה יחסית)*

אדם שמסתו m רץ במעלה רמפה משופעת בזווית θ .

מסת הרמפה היא M , והיא מונחת על מישור חלק.

האדם מתחיל ממנוחה והזמן הדרוש לו בכדי לעבור

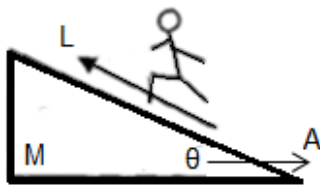
דרך שאורכה L על פני הרמפה הוא T .

א. מהי תאוצת האדם ביחס לרמפה?

ב. עקב הריצה נהדפת הרמפה ימינה, בתאוצה לא ידועה A יחסית לקרקע.

בטאו את רכיבי התאוצה של האדם יחסית לקרקע בעזרת התאוצה A .

ג. כמה זזה הרמפה ימינה בזמן T ?

**16) כדור עולה על מדרון משולש**

מדרון משולש בעל גובה $h = 3\text{m}$ חופשי לנוע

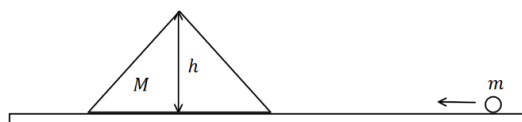
מעל משטח אופקי חלק (ללא חיכוך).

מסת המדרון היא: $M = 15\text{kg}$.

מגלגלים כדור בעל מסה $m = 5\text{kg}$

על המשטח לכיוון המדרון.

התייחס לכדור כאל גוף נקודתי.



א. מה צריכה להיות המהירות שבה מגלגלים את הכדור כך שהוא יעצור

(ביחס למדרון) בדיוק לפני שהוא עובר את שיא הגובה של המדרון?

ב. מהי מהירות המדרון ברגע שהכדור מגיע לשיא הגובה?

ג. מהי המהירות הסופית של המדרון והכדור?

(17) מסה מחליקה בין שני טריזים

גוף בעל מסה m מחליק על שני טריזים זהים בעלי מסה M כל אחד. המעבר מהטריז למשטח האופקי הוא חלק, המשטחים חסרי חיכוך וחופשיים לנוע על השולחן (ראו סרטוט).



לאיזה גובה מקסימאלי יטפס הגוף על הטריז השני אם גובהו ההתחלתי הוא h ?

(18) כדור גולף על כדורסל

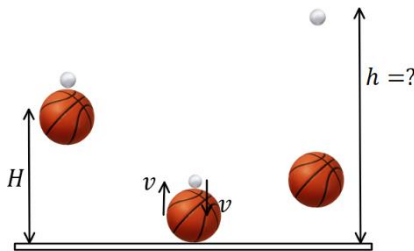
כדור גולף וכדור כדורסל מוחזקים במנוחה אחד מעל השני בגובה $H = 1.5\text{m}$.

משחררים אותם ליפול ממנוחה.

מה יהיה הגובה המרבי אליו יגיע כדור הגולף אם נניח שכל ההתנגשויות אלסטיות ומצחיות.

מסת כדור הגולף היא: $m = 46\text{gr}$

ומסת הכדורסל היא: $M = 624\text{gr}$.

**(19) התנגשות אלסטית זהה בכל המערכות**

במערכת אינרציאלית מסוימת האנרגיה הקינטית של שני גופים m_1 ו- m_2 היא E_k . מצאו את האנרגיה הקינטית של הגופים במערכת אינרציאלית אחרת הנעה במהירות v_0 ביחס למערכת המקורית.

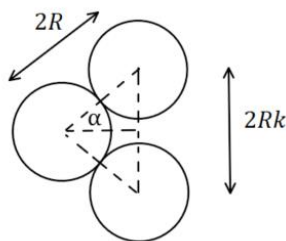
השתמשו בתוצאה שקיבלתם והראו כי אם במערכת מסוימת ההתנגשות היא אלסטית אז היא חייבת להיות אלסטית גם בכל מערכות הייחוס האינרציאליות האחרות.

(20) דיסקה מתנגשת בשתי דיסקות זהות

על מישור חלק נמצאות 3 דיסקות זהות בעלות מסה M ורדיוס R כל אחת.

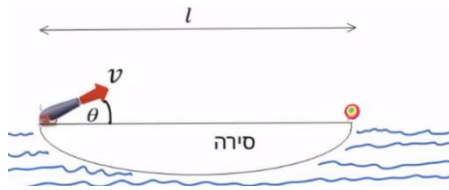
הדיסקה השמאלית באיור נעה במהירות v ומתנגשת התנגשות אלסטית בזמנית עם שתי הדיסקות האחרות כפי שמתואר באיור.

המרחק בין הדיסקות שנמצאות במנוחה לפני ההתנגשות מתואר על ידי $2Rk$ כאשר $1 \leq k \leq 2$.



א. מהי גודלה של מהירות הדיסקה הפוגעת לאחר ההתנגשות כתלות בזווית α שבאיור?

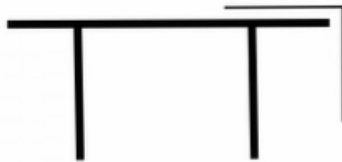
ב. עבור אילו ערכים של k הדיסקה תחזור אחורה/תיעצר במקום/תמשיך קדימה?

**(21) סירה יורה פגז על מטרה בקצה השני**

סירה באורך l נמצאת על מים שקטים, בקצה השמאלי של הסירה נמצא תותח צעצוע ובקצה הימני נמצאת מטרה. התותח יורה פגז צעצוע בזווית θ ובמהירות v ביחס לקרקע.

מסת הפגז היא m ומסת הסירה היא M .

מצא את המהירות v הדרושה בשביל לפגוע בדיוק במטרה (הזנח את גובה התותח וגובה המטרה והנח כי התותח מחובר לסירה).

(22) שרשרת מחליקה משולחן

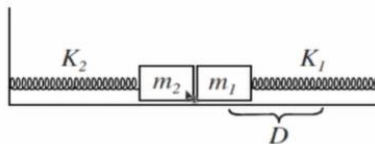
שרשרת בעלת אורך l ומסה m מחליקה ממנוחה משולחן כאשר חציה עדיין מונח על השולחן.

א. מה תהיה מהירות השרשרת ברגע הניתוק

מהשולחן, בהנחה שאין חיכוך?

ב. ענה על סעיף א' בהנחה שמקדם חיכוך μ

קיים בין השרשרת לשולחן.

(23) שתי מסות ושני קפיצים

מסות מתחילות ממנוחה כבשרטוט.

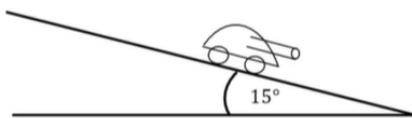
המסה הימנית נמתחת מרחק D ימינה ומשוחררת.

כשהיא פוגעת במסה השנייה היא נדבקת אליה

ושתיהן ממשיכות יחד.

א. מהו הכיווץ המקסימלי של הקפיץ השמאלי?

ב. מהו הכיווץ המקסימלי של הקפיץ הימני כאשר שתי המסות חוזרות ימינה?

(24) טנק יורה פגזים ועולה במדרון**

טנק שמסתו 800 ק"ג (טנק קל מאוד) נמצא

ברגע מסוים במנוחה על מדרון משופע בזווית

של 15 מעלות. הטנק יורה שני פגזים במרווח

של 2 שניות בין הירי הראשון לשני.

מסת כל פגז היא 20 ק"ג והוא נורה במהירות

לוע של 400 מטר לשנייה במקביל ובמורד למדרון.

הניחו שלטנק גלגלים והחיכוך בינו למדרון זניח.

מה ההעתק המקסימאלי שיעשה הטנק במעלה המדרון?

תשובות סופיות:

$$0.18\text{m} \quad (1)$$

$$0.028\text{m} \quad (2)$$

$$u = 155 \frac{\text{m}}{\text{sec}} \quad (3)$$

$$Q = 8.27\text{J}, \text{ ב. לא אלסטית, } u_1 = 8.66 \frac{\text{m}}{\text{sec}}, u_2 = 3.34 \frac{\text{m}}{\text{sec}} \quad (4)$$

$$v_{\min} = \left[(m + 0.05M)v_f + 0.95M \cdot 2\sqrt{gL} \right] \cdot \frac{1}{m} \quad (5)$$

$$\text{ב. } 0 \quad (6) \quad \text{א. } 0.75 \frac{\text{m}}{\text{sec}} \text{ כלפי מעלה.}$$

$$\text{א. } F \leq \mu_s g (m_1 + m_2) \quad \text{ב. תאוצה: } a_1 = \frac{F}{m_1} - \frac{m_2}{m_1} \mu_k g, a_2 = \mu_k g \quad (7)$$

$$\text{מהירות: } v_1(t) = a_1 t, v_2(t) = a_2 t, \text{ מיקום: } x_1(t) = \frac{1}{2} a_1 t^2, x_2(t) = \frac{1}{2} a_2 t^2$$

$$\text{ג. } E = F \cdot \frac{1}{2} a_1 T^2 - \left(\frac{1}{2} m_2 v_2^2(T) + \frac{1}{2} m_1 v_1^2(T) \right) \quad \text{ד. } u_f = \frac{F \cdot T}{m_1 + m_2}$$

$$\tilde{u} = \frac{v \left(m + \frac{M}{2} \right)}{M + m} \quad \text{ב.} \quad t = \frac{2l}{v} \quad (8) \quad \text{א.}$$

$$\text{ג. } a = \frac{mg\mu}{M}, \quad \text{ד. } M \cdot v \cdot \left(m + \frac{M}{2} \right) = (m + M) \cdot M \cdot \frac{v}{2} + (m + M) \cdot mg\mu \cdot \tilde{t}$$

$$\text{א. } \tilde{u} = \frac{v(M-m)}{M+m} \text{ חיובי,} \quad \text{ב. } \tilde{u} = \frac{v(M-m)}{M+m} \text{ שלילי.} \quad (9)$$

$$\text{א. } \alpha = 0, u_1 = v_0, u_2 = 2v_0; \quad \text{ב. } \alpha = 1, u_1 = 0, u_2 = v_0; \quad \text{ג. } \alpha = \infty, u_1 = -v_0, u_2 = 0 \quad (10)$$

$$\text{ב. } t = \frac{L}{u_2 - u_1}$$

$$J_{\text{ceiling}} = \frac{2m_1 m_2}{m_1 + m_2} \sqrt{2gH} \hat{y} \quad \text{ג.} \quad \Delta P_{\text{Total}} = \frac{2m_1 m_2}{m_1 + m_2} \sqrt{2gH} \quad \text{ב.} \quad v_2 = \sqrt{2gH} \quad \text{א.} \quad (11)$$

$$J_{\text{Totalceiling}} = 0 + \frac{2m_1 m_2}{m_1 + m_2} \sqrt{2gH} + \frac{m_1 (m_1 + m_2)}{m_1 - m_2} \sqrt{32gH} \quad \text{ה.} \quad h = \frac{m_2}{m_1 - m_2} \sqrt{\frac{H}{2g}} \quad \text{ד.}$$

$$t = \frac{L}{v} \quad (12)$$

$$\text{א. } 0 = mv + Mu \quad \text{ב. } mv + Mu = (m + M) \cdot 0 \quad \text{ג. } L = t \cdot (v - u) \quad (13)$$

$$\text{ד. } x = u \cdot t \quad \text{ה. ראה סרטון.}$$

$$u_2 = \frac{mv_R}{m + M}, \quad u_1 = \frac{-Mv_R}{m + M} \quad (14)$$

$$x_{ramp}(T) = \frac{m}{m+M} L \cos \theta \quad \text{ג.}$$

$$u_1' = 2\sqrt{5} \frac{m}{\text{sec}}, \quad u_2' = -2\sqrt{5} \frac{m}{\text{sec}} \quad \text{ג.}$$

$$a_{P_x} = \frac{2L}{T^2} \cos \theta - A \quad \text{ב.}$$

$$u = \sqrt{5} \frac{m}{\text{sec}} \quad \text{ב.}$$

$$a'_P = \frac{2L}{T^2} \quad \text{א. (15)}$$

$$v_0 = 8.94 \frac{m}{\text{sec}} \quad \text{א. (16)}$$

$$h'_{\max} = \frac{M^2 h}{(M+m)^2} \quad \text{(17)}$$

$$h \approx 12.3m \quad \text{(18)}$$

$$E_k' = E_R - (m_1 v_1 + m_2 v_2) v_0 + \frac{1}{2} (m_1 + m_2) v_0^2 \quad \text{(19)}$$

$$u_1 = v \frac{1 - 2 \cos^2 \alpha}{1 + 2 \cos^2 \alpha} \quad \text{א. (20)}$$

ב. קדימה: $\sqrt{2} < k \leq 2$, במקום: $k = \sqrt{2}$, אחורה: $1 \leq k < \sqrt{2}$

$$v = \sqrt{\frac{gL}{\left(1 + \frac{m}{M} \sin 2\theta\right)}} \quad \text{(21)}$$

$$v = gl \left(\frac{3 - \mu}{4} \right) \quad \text{ב.} \quad v = \sqrt{\frac{3}{4}} gl \quad \text{א. (22)}$$

(23) ראה סרטון.

$$x(t = 5.82) \approx 60m \quad \text{(24)}$$

פיזיקה 1 להנדסת אלקטרוניקה ותכנה 3 שעות שבועיות

פרק 10 - מרכז מסה -

תוכן העניינים

1. הסבר בסיסי על מרכז מסה..... 127
2. דוגמה מרכז מסה של דיסקה עם חור..... 129
3. תנועה לפי הכוחות החיצוניים..... (ללא ספר) 130
4. שני תרגילים..... 130

הסבר בסיסי על מרכז מסה:

רקע

$$\vec{r}_{c.m.} = \frac{m_1 \vec{r}_1 + m_2 \vec{r}_2}{m_1 + m_2}$$

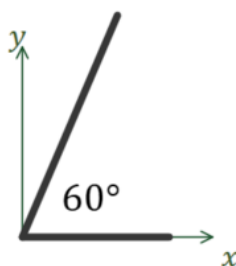
ניתן לרשום אותה לכל רכיב בנפרד, לדוגמה לרכיב x:

$$x_{c.m.} = \frac{m_1 x_1 + m_2 x_2}{m_1 + m_2}$$

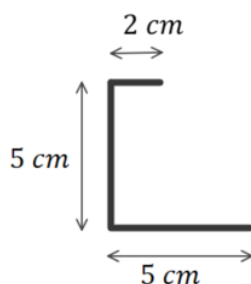
$$\vec{v}_{c.m.} = \frac{m_1 \vec{v}_1 + m_2 \vec{v}_2}{m_1 + m_2}$$

$$\vec{a}_{c.m.} = \frac{m_1 \vec{a}_1 + m_2 \vec{a}_2}{m_1 + m_2}$$

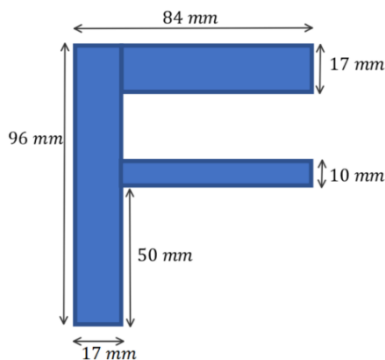
שאלות:



- (1) דוגמה - מרכז מסה של שני מוטות בזווית המערכת המתוארת באיור מורכבת משני מוטות בעלי צפיפות אחידה. מוט ראשון באורך 3c.m נמצא לאורך ציר ה-x ומסתו 2kg, מוט שני נמצא בזווית 60° עם ציר ה-x החיובי ואורכו 5c.m ומסתו 3kg. מצאו את מרכז המסה של המערכת (ביחס לראשית).



- (2) דוגמה - מרכז מסה של האות נ המערכת המתוארת באיור מורכבת ממוט בעל צפיפות מסה אחידה המכופף בצורת האות "נ" בתמונת מראה. מצאו את מיקום מרכז המסה של המערכת ביחס לפינה השמאלית התחתונה.



3) דוגמה - מרכז מסה של F

מרכיבים את האות F מלוחות בעלי צפיפות מסה אחידה ליחידת שטח.

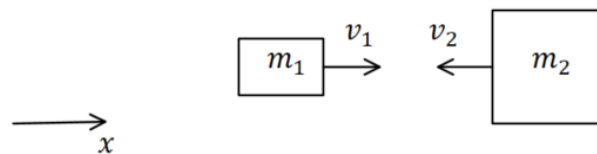
המימדים של כל הלוחות נתונים באיור.

א. מצאו את מרכז המסה של המערכת ביחס לפינה השמאלית התחתונה של האות.

ב. מהו מרכז המסה של המערכת ביחס לפינה הימנית התחתונה של האות?

4) דוגמה - מהירות מרכז מסה בהתנגשות

שני גופים בעלי מסות m_1 ו- m_2 נעים על קו ישר אחד כלפי השני במהירויות v_1 ו- v_2 . חשבו את מהירות מרכז המסה לפני ואחרי ההתנגשות.



תשובות סופיות:

$$x_{c.m} = 1.35c.m, \quad y_{c.m} = 1.3c.m \quad (1)$$

$$x_{c.m} = 1.2c.m, \quad y_{c.m} = 1.875c.m \quad (2)$$

$$x_{c.m} = 14mm, \quad y_{c.m} = 62mm \quad \text{ב.} \quad x_{c.m} = 31mm, \quad y_{c.m} = 62mm \quad \text{א.} \quad (3)$$

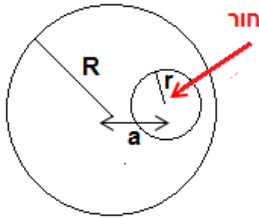
$$\frac{m_1 v_1 + m_2 v_2}{m_1 + m_2} \quad (4)$$

דוגמה מרכז מסה של דיסקה עם חור:

שאלות:

(1) דוגמה מרכז מסה של דיסקה עם חור

בדיסקה בעלת רדיוס R ומסה M קדחו חור עגול בעל רדיוס r במרחק a ממרכז הדיסקה. הנח כי צפיפות המסה אחידה בכל הדיסקה. מצא את מרכז המסה של הדיסקה עם החור.

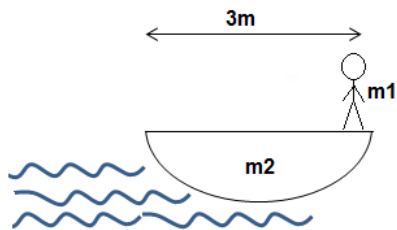


תשובות סופיות:

$$x_{c.m.} = \frac{-a(\rho\pi r^2)}{M - (\rho\pi r^2)} \quad (1)$$

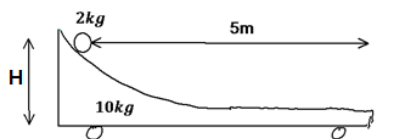
שני תרגילים:

שאלות:



(1) נער על סירה

אדם עומד בקצה סירה באורך 3 מטר.
 מסת האדם היא 70 קילוגרם ומסת
 הסירה 100 קילוגרם.
 האדם התקדם 2 מטרים לאורך הסירה.
 כמה זזה הסירה?
 (הזנח את החיכוך בין המים לסירה).
 נתון: $m_1 = 70\text{kg}$, $m_2 = 100\text{kg}$.



(2) כדור על קרונית

כדור מונח על קרונית משופעת הנמצאת במנוחה.
 הכדור מונח בגובה $H = 1\text{m}$ ובמרחק של 5m מטר
 מקצה הקרונית.

מסת הקרונית: $m_1 = 10\text{kg}$, מסת הכדור: $m_2 = 2\text{kg}$.

א. מצא את העתק הקרונית כאשר הכדור מגיע לקצה.

ב. מצא את מהירות הגופים אם נתון שמהירות הכדור בקצה הקרונית

היא רק בכיוון ציר ה-x.

תשובות סופיות:

$$x = \frac{14}{17} \text{ m} \quad (1)$$

$$\Delta x_1 = -\frac{10}{12} \text{ m} \quad \text{א.} \quad (2)$$

$$\text{ב.} \quad u_2 \approx 4.08 \frac{\text{m}}{\text{sec}}, \quad u_1 \approx -0.82 \frac{\text{m}}{\text{sec}}$$

פיזיקה 1 להנדסת אלקטרוניקה ותכנה 3 שעות שבועיות

פרק 11 - תנועה מעגלית

תוכן העניינים

131	1. נוסחאות בסיסיות בתנועה מעגלית
137	2. הכוח הצנטרפוגלי
139	3. וקטורים בתנועה מעגלית
142	4. תרגילים מסכמים
146	5. תרגילים מסכמים למתקדמים

נוסחאות בסיסיות בתנועה מעגלית

רקע

- תנועה מעגלית היא תנועה על מעגל עם רדיוס קבוע.

יש להציב את הזווית ברדיאנים	$S = \Delta\theta \cdot R$	הדרך בתנועה מעגלית
כיוון המהירות תמיד משיק למעגל	$v(t) = \frac{dS}{dt}$	גודל המהירות הקווית (speed)
f - התדירות T - זמן המחזור התדירות וזמן המחזור מוגדרים רק בתנועה מעגלית קצובה קשר רק בין הגדלים	$\omega = \frac{d\theta}{dt} = 2\pi f = \frac{2\pi}{T}$	מהירות זוויתית
	$v = \omega R$	קשר בין המהירות הקווית לזוויתית
	$a_r = \frac{v^2}{R} = \omega^2 R$	תאוצה רדיאלית לכיוון מרכז המעגל
	$\Sigma F_{\text{למרכז המעגל}} = m \frac{v^2}{R} = m\omega^2 R$	הכוח
	$\alpha = \frac{d\omega}{dt}$	תאוצה זוויתית
	$a_\theta = \frac{d \vec{v} }{dt} = \alpha R$	תאוצה משיקית
כאשר h ו- θ נמדדים מתחתית המעגל	$h = R(1 - \cos\theta)$	הגובה במעגל אנכי

שאלות

1) דוגמה-נהג מרוצים

נהג מרוצים נוסע במסלול מעגלי שרדיוסו 50 מטר.
מהירותו של הנהג כתלות בזמן היא: $v(t) = 4t$.

- א. מצא את המהירות הזוויתית של הנהג כתלות בזמן ומצא את הזווית של הנהג לאחר 5 שניות? (בהנחה כי התחיל מזווית אפס).
ב. מתי ישלים הנהג את הסיבוב הראשון?

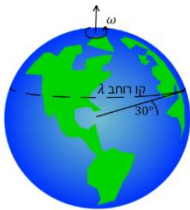


2) דוגמה-חישוב מהירות זוויתית של מחוגי שעון

חשב את המהירות הזוויתית של מחוג השניות, מחוג הדקות ומחוג השעות בשעון מחוגים.

3) חישוב מהירות זוויתית של כדור הארץ

- א. חשב את המהירות הזוויתית של סיבוב כדור הארץ סביב עצמו.
ב. מהי המהירות הקווית של אדם הנמצא בקו המשווה אם רדיוס כדור הארץ הוא בערך 6400 ק"מ?
ג. מהי המהירות הקווית של אדם הנמצא בקו רוחב $\lambda = 30^\circ$?

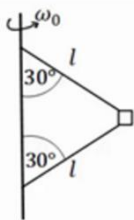


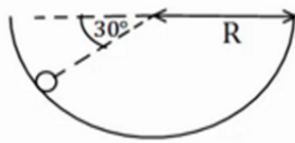
4) דוגמה-יובל מסובבת אבן

- יובל קושרת אבן שמסתה 200 גרם לחוט באורך 0.7 מטר.
יובל מסובבת את האבן באמצעות החוט במעגל אופקי מעל ראשה (כמו שמסובבים קלע). המהירות הזוויתית של האבן היא: $12 \frac{\text{rad}}{\text{sec}}$.
מהי התאוצה הרדיאלית של האבן ומהי המתיחות בחוט?
הנח שכוח הכובד זניח.

5) מסה קשורה לעמוד מסתובב

- במערכת הבאה מסה m קשורה דרך שני חוטים למוט המסתובב במהירות זוויתית ω_0 . אורך החוטים זהה ושווה ל-1.
הזווית של החוטים עם המוט היא 30 מעלות.
מהי המתיחות בכל חוט? בשאלה זו כוח הכובד אינו זניח.
נתונים: m, l, ω_0 .



6) כדור בקערה כדורית

כדור קטן מונח בתוך קערה כדורית בעלת רדיוס R . מניחים את הכדור בזווית של 30° מעלות ביחס לאופק ונותנים לו מהירות התחלתית לתוך הדף. מהו גודל המהירות ההתחלתית הדרוש כך שהכדור יישאר בתנועה מעגלית בגובה קבוע?

7) דוגמה-תאוצה זוויתית נהג המרוצים

מצא את התאוצה הזוויתית בדוגמה-נהג מרוצים (שאלה 1).

8) זווית משתנה בזמן

המיקום הזוויתי של נקודה על גבי שפת גלגל מסתובב נתונה ע"י: $\phi = 5t + 3t^2 - 2t^3$.

- מהי המהירות הזוויתית ב- $t = 2 \text{ sec}$ ו- $t = 4 \text{ sec}$?
- מהי התאוצה הזוויתית הממוצעת בין זמנים אלו?
- מהי התאוצה הזוויתית הרגעית בזמנים אלו?

9) תאוצה משיקית קבועה

גוף נע במעגל בעל רדיוס R בתאוצה משיקית קבועה a_t וללא מהירות התחלתית. מצאו את גודל התאוצה הרדיאלית:

- כפונקציה של הזמן.
- כפונקציה של זווית הסיבוב.

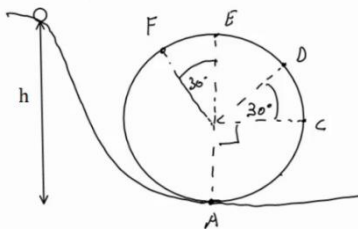
10) תאוצה משיקית רדיאלית וכוללת

גוף נע במעגל שרדיוסו 3 מטר. הדרך שעובר הגוף נתונה ע"י: $s = 6t^2 + 3t$. חשב את התאוצה המשיקית, הרדיאלית והכוללת (כתלות בזמן).

11) דוגמה-כוח על נהג המרוצים

בדוגמה של נהג המרוצים (שאלה 1), מצא מה הכוח הפועל על המכונית אם מסת המכונית (כולל הנהג) היא טון אחד. מי מפעיל כוח זה?

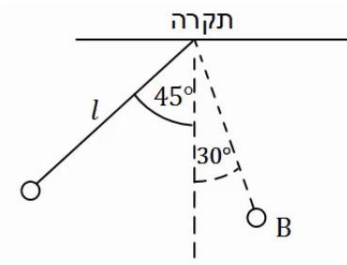
12) דוגמה-כדור בלופ



כדור קטן מאוד מתחיל להתגלגל ממנוחה מגובה $h = 6\text{m}$ ונכנס לתוך מעגל אנכי. נתון שהכדור משלים סיבוב ואין חיכוך בינו לבין הרצפה. רדיוס המעגל הוא: $R = 2\text{m}$.

- מצא את מהירות הכדור בכל הנקודות באיור. (רמז: שימור אנרגיה).
- מצא את התאוצה הרדיאלית של הכדור באותן נקודות.
- מצא את התאוצה בכיוון המשיק באותן נקודות.
- מצא את גודל התאוצה הכוללת באותן נקודות.

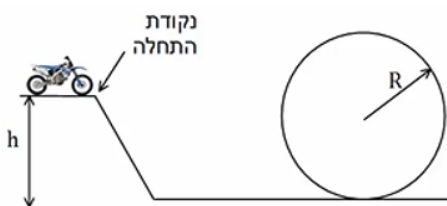
13) כוחות במטוטלת



מטוטלת משוחררת ממנוחה מזווית של 45° מעלות. אורך החוט הוא l והמסה היא m .

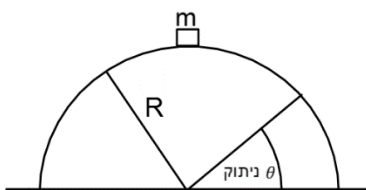
- מהי מהירות המסה בתחתית המסלול?
- מהי המתיחות בחוט ברגע זה?
- מהי מהירות המסה בנקודה B הנמצאת בזווית 30° מעלות? ומהי המתיחות בחוט באותה נקודה?
- מהי המתיחות בחוט בשיא הגובה וברגע השחרור?

14) רוכב אופנוע במעגל אנכי



רוכב אופנוע מתחיל תנועתו מנקודת ההתחלה שבציור. מהי המהירות ההתחלתית המינימלית הנדרשת עבור הרוכב כך שיוכל להשלים את הסיבוב האנכי. הנח שהרוכב אינו משתמש במנוע לאחר נקודת ההתחלה. נתון: R, h .

15) קופסה מחליקה על גבעה מעגלית



קופסה במסה m מונחת על ראש גבעה בצורת חצי מעגל ברדיוס R . הקופסה מתחילה להחליק לאחד הצדדים ממנוחה כאשר אין חיכוך בינה לבין הגבעה. מצא באיזה זווית הקופסה תתנתק מהגבעה.

תשובות סופיות

$$\omega = \frac{2t}{25}, \theta \approx 57.3^\circ \quad \text{א.} \quad \text{ב. } 12.5 \text{ sec} \quad (1)$$

$$0.105 \frac{\text{rad}}{\text{sec}} : \text{מחוג שניות} \quad \text{ב.} \quad 1.75 \cdot 10^{-3} \frac{\text{rad}}{\text{sec}} : \text{מחוג דקות} \quad (2)$$

$$1.45 \cdot 10^{-4} \frac{\text{rad}}{\text{sec}} : \text{מחוג שעות}$$

$$7.27 \cdot 10^{-5} \frac{\text{rad}}{\text{sec}} \quad \text{א.} \quad \text{ב.} \quad 465 \frac{\text{m}}{\text{sec}} \quad \text{ג.} \quad 400 \frac{\text{m}}{\text{sec}} \quad (3)$$

$$T = 20.16 \text{ N}, a_r = 100.8 \frac{\text{m}}{\text{sec}^2} \quad (4)$$

$$T_1 = \frac{mg}{\sqrt{3}} + \frac{m\omega_0^2 l}{2}, T_2 = \frac{-mg}{\sqrt{3}} + \frac{m\omega_0^2 l}{2} \quad (5)$$

$$v = \sqrt{\frac{3gR}{2}} \quad (6)$$

$$\alpha = \frac{2}{25} \frac{\text{rad}}{\text{sec}^2} \quad (7)$$

$$\omega(t=2) = -7 \frac{\text{rad}}{\text{sec}}, \omega(t=4) = -67 \frac{\text{rad}}{\text{sec}} \quad \text{א.} \quad \text{ב.} \quad \bar{\alpha} = -30 \frac{\text{rad}}{\text{sec}^2} \quad (8)$$

$$\alpha(t=2) = 18 \frac{\text{rad}}{\text{sec}^2}, \alpha(t=4) = -42 \frac{\text{rad}}{\text{sec}^2} \quad \text{ג.}$$

$$a_r = 2a_t \theta \quad \text{ב.} \quad a_r = \frac{(a_t \cdot t)^2}{R} \quad \text{א.} \quad (9)$$

$$a_\theta = 12 \frac{\text{m}}{\text{sec}^2}, a_r = (4t+1)^2 \cdot 3 \frac{\text{m}}{\text{sec}^2}, a = \sqrt{12^2 + 9(4t+1)^4} \quad (10)$$

$$|F| = \sqrt{(80t)^2 + 4000^2} \quad \text{הכביש מפעיל כוח זה.} \quad (11)$$

$$|F| = \sqrt{(80t)^2 + 4000^2} : \text{החיכוך מהכביש} \quad (12)$$

$$v_A \approx 10.95 \frac{\text{m}}{\text{sec}}, v_C \approx 8.94 \frac{\text{m}}{\text{sec}}, v_D \approx 7.975 \frac{\text{m}}{\text{sec}}, v_E \approx 6.32 \frac{\text{m}}{\text{sec}}, v_F \approx 6.73 \frac{\text{m}}{\text{sec}} \quad \text{א.} \quad (13)$$

$$a_r = \frac{v^2}{R} \quad \text{ב.} \quad a_{r_A} = 60 \frac{\text{m}}{\text{sec}^2}, a_{r_B} = 40 \frac{\text{m}}{\text{sec}^2} \quad \text{וכו', לפי הנוסחה}$$

$$a_{\theta_A} = 0, a_{\theta_C} = -g, a_{\theta_D} = -10 \cdot \frac{\sqrt{3}}{2} \frac{\text{m}}{\text{sec}^2}, a_{\theta_E} = 0, a_{\theta_F} = 5 \frac{\text{m}}{\text{sec}^2} \quad \text{ג.}$$

$$|\vec{a}| = \sqrt{a_x^2 + a_y^2} = \sqrt{a_r^2 + a_\theta^2} \quad \text{ד.}$$

14 א. $v = \sqrt{0.58gl}$ ב. $T = 1.58mg$

ג. מהירות: $v_B = \sqrt{0.32gl}$, מתיחות: $T = mg(1.19)$

ד. בשניהם: $T = mg \frac{1}{\sqrt{2}}$

15 $\theta = 41.8^\circ$

הכוח הצנטריפוגלי

רקע

$$F_r = m\omega^2 R$$

בכיוון החוצה מהמעגל

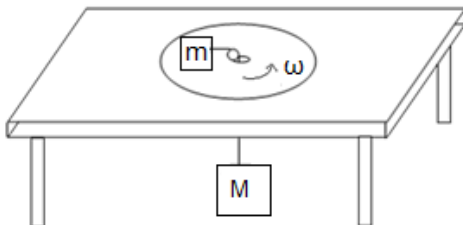
שימו לב שהכוח הצנטריפוגלי הוא כוח מדומה והוא מגיע מדרך הסתכלות שונה על תנועה מעגלית של צופה המסתובב עם המערכת. בצורת ההסתכלות הזו אין לגוף תאוצה רדיאלית.

שאלות

1) מסה על שולחן מסתובב

- מסה m מונחת על דיסק המסתובב על שולחן במהירות זוויתית קבועה ω .
 המסה מחוברת לחוט העובר דרך מרכז השולחן ומחובר למסה m .
 בין המסה m לדיסק יש חיכוך ומקדם החיכוך הסטטי הוא μ_s .
 נתון: ω, μ, m, μ_s .

מהו הרדיוס המינימלי והרדיוס המקסימאלי שבו ניתן להניח את המסה כך שלא תזוז בכיוון הרדיאלי?



תשובות סופיות

$$r_{\min}^{\max} = \frac{Mg \pm \mu_s mg}{m\omega^2} \quad (1)$$

וקטורים בתנועה מעגלית

רקע

וקטור המיקום: $\vec{r} = R \cos \theta \hat{x} + R \sin \theta \hat{y}$

הקשר בכללי בין המהירות הקווית לזוויתית: $\vec{v} = \vec{\omega} \times \vec{r}$

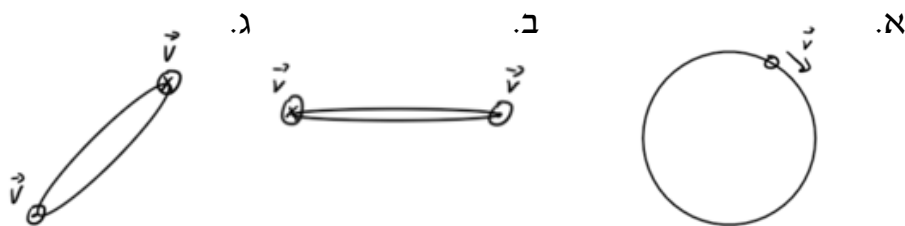
וקטורי יחידה בכיוון רדיאלי ומשיק:

$$\hat{r} = \cos \theta \hat{x} + \sin \theta \hat{y} ; \hat{\theta} = -\sin \theta \hat{x} + \cos \theta \hat{y}$$

שאלות

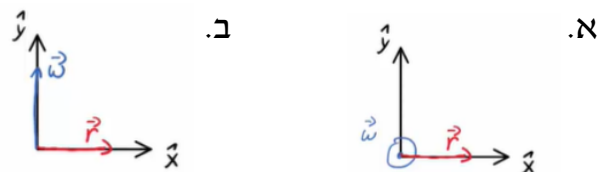
1) מציאת הכיוון של אומגה

במקרים הבאים נתון כיוונה של המהירות הקווית של גוף הנע במעגל. מצא את הכיוון של המהירות הזוויתית בכל מקרה:



2) תרגיל לנוסחה $\vec{v} = \vec{\omega} \times \vec{r}$

מצא את כיוון המהירות הקווית של הגוף במקרים הבאים בהנחה כי הגוף נע בתנועה מעגלית.



3) תאוצה זוויתית קבועה כוקטור

גוף נע במעגל בעל רדיוס קבוע שאינו ידוע.

התאוצה הזוויתית של הגוף קבועה ונתונה לפי: $\vec{\alpha} = 2\hat{x} + 3\hat{y} + 1\hat{z}$ ביחידות של רדיאן לשנייה בריבוע.

המיקום ההתחלתי והמהירות הזוויתית ההתחלתית הם: $\vec{r}_0 = 5\hat{x} + 3\hat{y} - 2\hat{z}$

במטרים ו- $\vec{\omega}_0 = -2\hat{x} + 3\hat{y} - 4\hat{z}$ ברדיאן לשנייה.

מצא את גודל המהירות הקווית של הגוף ב- $t = 2 \text{ sec}$.

(4) דוגמה-וקטור המיקום של נהג המרוצים

מצא את וקטור המיקום כתלות בזמן בדוגמה עם נהג המרוצים :
 נהג מרוצים נוסע במסלול מעגלי שרדיוסו 50 מטר. מהירותו של הנהג כתלות בזמן היא $v(t) = 4t$.

- א. מצאו את המהירות הזוויתית של הנהג כתלות בזמן, ומצאו את הזווית של הנהג לאחר 5 שניות (בהנחה כי התחיל מזווית אפס).
 ב. מתי ישלים הנהג את הסיבוב הראשון?

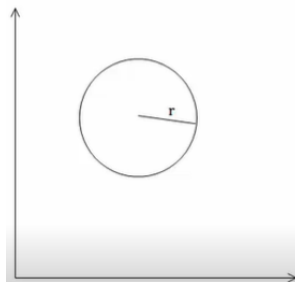
(5) תנועה מעגלית שאינה סביב הראשית

גוף נע על מעגל ברדיוס 3m.

הגוף חולף דרך הנקודה (5,4) ביחס לראשית הצירים O.

נתון כי מרכז המעגל נמצא ב- (5,7) והמהירות הזוויתית היא : $\omega = \frac{2\pi \text{ rad}}{20 \text{ sec}}$

- א. מצא את וקטור המיקום של הגוף כפונקציה של הזמן.
 ב. מצא את וקטור המהירות של הגוף כפונקציה של הזמן.
 ג. מצא את וקטור התאוצה של הגוף כפונקציה של הזמן.
 ד. מצא את המהירות הממוצעת בין $t = 5 \text{ sec}$ ל- $t = 10 \text{ sec}$.
 ה. מצא את תחום הזווית ביחס לראשית בו נע וקטור המקום.
 ו. מצא את תחום הגדלים של וקטור המקום.



תשובות סופיות

$$\text{א. } \otimes \quad \text{ב. } \downarrow \quad \text{ג. } \wedge \quad (1)$$

$$\text{א. } \text{\$} \quad \text{ב. } -\text{\$} \quad (2)$$

$$63.63 \frac{\text{m}}{\text{sec}} \quad (3)$$

$$\vec{r} = 50 \cos\left(\frac{t^2}{25}\right) \text{\$} + 50 \sin\left(\frac{t^2}{25}\right) \text{\$} \quad (4)$$

$$\vec{r} = \left(5 + 3 \cos\left(\frac{3\pi}{2} + \frac{\pi}{10}t\right), 7 + 3 \sin\left(\frac{3\pi}{2} + \frac{\pi}{10}t\right) \right) \text{א.} \quad (5)$$

$$\vec{v} = \text{\$} = \left(-3 \sin\left(\frac{3\pi}{2} + \frac{\pi}{10}t\right) \frac{\pi}{10}, 3 \cos\left(\frac{3\pi}{2} + \frac{\pi}{10}t\right) \frac{\pi}{10} \right) \text{ב.}$$

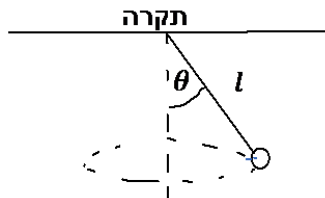
$$\vec{a} = \left(\frac{-3}{5}, \frac{3}{5} \right) \text{ד.} \quad \text{א. } \frac{r}{a} = \text{\$} = -\omega^2 r$$

$$r_{\max} = 8.6 + 3, r_{\min} = 8.6 - 3 \quad \text{ו.}$$

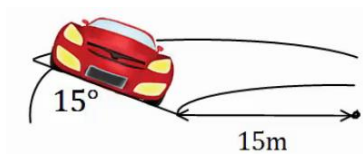
$$\theta_{\min} = 34.5^\circ, \theta_{\max} = 74.9^\circ \quad \text{ה.}$$

תרגילים מסכמים:

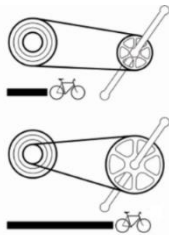
שאלות:



- (1) **מטוטלת מסתובבת אופקית**
מטוטלת בעלת אורך l מסתובבת סביב ציר האנך לתקרה בזווית מפתח קבועה θ . נתון: l, θ . מצא את התדירות וזמן המחזור של הסיבוב.



- (2) **מכונית במחלף**
מכונית נוסעת על מחלף משופע. זווית השיפוע של המחלף היא 15° מעלות. רדיוס הסיבוב של המחלף הוא 15 מטרים. אם נניח שלמכונית אין חיכוך עם הכביש, מה המהירות בה צריכה לנסוע המכונית על מנת לא להחליק?



- (3) **הילוכי אופניים**
הילוכים של אופניים מורכבים משני גלגלי שיניים ברדיוסים שונים ושרשרת המקיפה את שני הגלגלים. כאשר השרשרת מתוחה האורך שלה קבוע. מצאו את הקשר בין מהירות הסיבוב של גלגלי השיניים אם הרדיוסים שבהם מקיפה השרשרת כל אחד מהגלגלים ידועים.

- (4) **שני גופים על מסילה מעגלית אנכית (כולל עבודה ואנרגיה)**
מסילה מעגלית חלקה, דקה ובעלת רדיוס R מוצבת במישור אנכי. מישור משופע וחלק משיק למסילה ומשתלב בה כמתואר בתרשים. מציבים את בול A בגובה $2R$ ואת בול B על המישור המשופע בגובה זהה מהרצפה. נותנים ל- A דחיפה קלה ועוזבים את B ממצב מנוחה. שני הגופים מחליקים, גוף A בצידה החיצוני של המסילה ואילו גוף B משתלב ונכנס לתוך המסילה. בשלב מסוים כל אחד מהגופים מתנתק מהמסילה. התייחסו לגופים כאל גופים נקודתיים.

א. באיזו זווית θ_1 עם ציר ה- y , יתנתק גוף A מהמסילה?

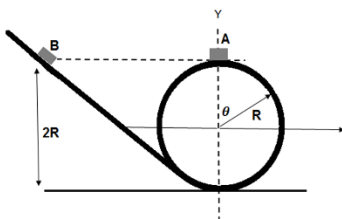
ב. באיזו זווית θ_2 יתנתק גוף B מהמסילה?

ג. אם שני הגופים מתנתקים מהמסילה בו זמנית.

מה גודל המהירות היחסית בניהם?

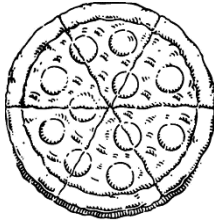
ד. מה יהיה המרחק בין הגופים לאחר הניתוק,

אחרי פרק זמן Δt (הניחו שהגופים עדיין באוויר).



(5) מציאת מיקום כפונקציה של הזמן

חלקיק מוגבל לנוע על מעגל ברדיוס R . נתון שגודל המהירות של החלקיק: $V(t) = Ct^2$ כאשר C קבוע. מצאו ופתרו את משוואת המיקום של החלקיק.

(6) מסובבים פיצה בתנועה מעגלית

מסובבים פיצה בתנועה מעגלית כך שמתקיים: $\theta = 4t^2 + 5t$ כאשר θ נמדדת ברדיאנים ו- t בשניות.

א. מצאו את המהירות הזוויתית של הבצק.

ב. מצאו את התאוצה הזוויתית של הבצק.

ג. לאחר שהוסיפו את הזיתים מסובבים עוד פעם את הפיצה באותו אופן.

מצאו את הרדיוס בו נמצא זית הנע בתאוצה משיקית של $0.2 \frac{m}{sec^2}$.

ד. חזור על סעיף ג' אם ידוע שהתאוצה הקווית הכוללת ב- $t = 1 \text{ sec}$ היא: $0.2 \frac{m}{sec^2}$.

(7) תאוצה משיקית קבועה

נקודה נעה במסלול מעגלי שרדיוסו 30 ס"מ.

הנקודה נעה בתאוצה משיקית קבועה של 4 מטר לשנייה בריבוע.

לאחר כמה זמן מתחילת התנועה התאוצה הרדיאלית של הנקודה תהיה:

א. גדולה פי 2 מהתאוצה המשיקית?

ב. שווה לתאוצה המשיקית?

(8) זווית בין משיקית לכוללת

גוף נקודתי מתחיל לנוע ממנוחה במסלול מעגלי בעל רדיוס 2 מטר בתאוצה משיקית קבועה. ידוע כי לאחר שני סיבובים שלמים הגיע הגוף למהירות קווית של 2 מטר לשנייה.

א. תוך כמה זמן השלים הגוף את שני הסיבובים הראשונים?

ב. מה הייתה התאוצה המשיקית של הגוף?

ג. מה הייתה הזווית בין וקטור התאוצה המשיקית לווקטור התאוצה השקולה לאחר שני הסיבובים הראשונים?

ד. מתי, החל מעת תחילת התנועה, תהיה התאוצה המשיקית שווה בגודלה לתאוצה המרכזית של הגוף?

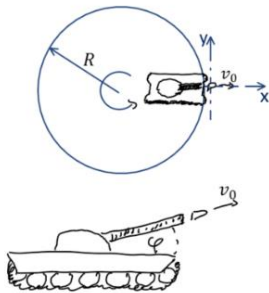
ה. איזה מרחק יעבור הגוף עד אז? (ראה סעיף ד').

9) חמישה סיבובים

נקודה שנמצאת במרחק 15 ס"מ ממרכז הגלגל, מתחילה להסתובב בתאוצה משיקית קבועה. הנקודה מגיעה למהירות זוויתית של $20 \frac{\text{rad}}{\text{sec}}$ לאחר 5 סיבובים. מצא את:

- א. התאוצה המרכזית של הנקודה כעבור 5 שניות.
- ב. התאוצה המשיקית של הנקודה כעבור 5 שניות.
- ג. התאוצה השקולה של הנקודה כעבור 5 שניות.

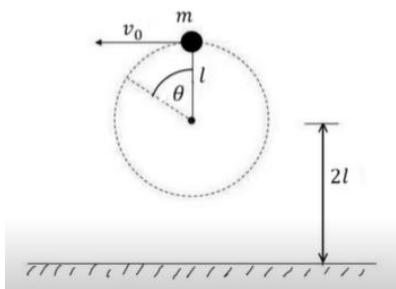
10) טנק יורה פגז מדיסקה מסתובבת



טנק נמצא בקצה של דיסקה ברדיוס R היכולה להסתובב במקביל לקרקע. הדיסקה מתחילה להסתובב ב- $t = 0$ בתאוצה זוויתית $\ddot{\theta} = kt^2$. כעבור זמן t_0 הטנק נמצא במיקום שבאיור ויורה פגז. מהירות הלוע של הפגז היא v_0 .

- התותח מכווון בכיוון הרדיאלי כלפי חוץ, ובזווית φ מעל הקרקע (במאונך למישור שבו מסתובבת הדיסקה).
- א. באיזה מהירות ביחס לצופה ניח יוצא הכדור מלוע הטנק?
 - ב. באיזה מרחק מנקודת הירי יפגע הפגז?

11) חוט נקרע במעגל אנכי גבוה



- כדור קטן שמסתו m קשור לקצהו של חוט שאורכו l. הכדור מסתובב במעגל אנכי שמרכזו בגובה 2l מעל הרצפה. כאשר החוט מתוח והכדור נמצא אנכית מעל ציר סיבוב מעניקים לו מהירות אופקית v_0 .
- א. מה המהירות המינימלית v_0 הנדרשת כדי שהכדור יבצע תנועה מעגלית שלמה?
 - ב. מעניקים לכדור מהירות התחלתית: $v_0 = 1.5\sqrt{gl}$, אם החוט נקרע ברגע שמתוחותו עולה על $5.25mg$ מצאו את הזווית θ שבה יקרע החוט.
 - ג. מה המהירות הכדור ברגע שהחוט נקרע, אם נתון ש: $l = 2m$?
 - ד. תוך כמה זמן מרגע קריעת החוט יפגע הכדור ברצפה?

תשובות סופיות:

$$f = \frac{\omega}{2\pi}, T = \frac{2\pi}{\omega} \quad (1)$$

$$V \approx 6.34 \frac{\text{m}}{\text{sec}} \quad (2)$$

$$\frac{\omega_1}{\omega_2} = \frac{r_2}{r_1} \quad (3)$$

$$d = \sqrt{\frac{8}{3}gR\Delta t} \quad \text{ז} \quad |\vec{V}_{AB}| = \sqrt{\frac{8}{3}gR} \quad \text{ג} \quad \theta_2 = \theta_1 = 48.2^\circ \quad \text{ב} \quad \theta_1 = 48.2^\circ \quad \text{א} \quad (4)$$

$$x = R \cos \frac{C \cdot t^3}{3R}, y = R \sin \left(\frac{C \cdot t^3}{3R} \right) \quad (5)$$

$$R = 2.5\text{cm} \quad \text{ג} \quad \alpha = \dot{\omega} = 8 \frac{\text{rad}}{\text{sec}^2} \quad \text{ב} \quad \omega = \dot{\theta} = 8t + 5 \quad \text{א} \quad (6)$$

$$1.18 \cdot 10^{-3} \text{m} \quad \text{ז}$$

$$t \approx 0.27 \text{sec} \quad \text{ב} \quad t \approx 0.39 \text{sec} \quad \text{א} \quad (7)$$

$$t_2 = 5 \text{sec} \quad \text{ז} \quad \alpha = 87.73^\circ \quad \text{ג} \quad a_\theta \approx 0.08 \frac{\text{m}}{\text{sec}^2} \quad \text{ב} \quad t_1 \approx 25.1 \text{sec} \quad \text{א} \quad (8)$$

$$S = 1\text{m} \quad \text{ה}$$

$$|a| \approx 150 \frac{\text{m}}{\text{sec}^2} \quad \text{ג} \quad a_\theta \approx 0.95 \frac{\text{m}}{\text{sec}^2} \quad \text{ב} \quad a_r \approx 150 \frac{\text{m}}{\text{sec}^2} \quad \text{א} \quad (9)$$

$$v_x = v_0 \cos \varphi, v_y = \frac{kt_0^3 R}{3}, v_z = v_0 \sin \varphi \quad \text{א} \quad (10)$$

$$d = \left[(v_0 \cos \varphi)^2 + \left(\frac{kt_0^3 R}{3} \right)^2 \right]^{\frac{1}{2}} \left(t_0 + \frac{2v_0 \sin \varphi}{g} \right) \quad \text{ב}$$

$$t \approx 0.3 \text{sec} \quad \text{ז} \quad v \approx 10 \frac{\text{m}}{\text{sec}} \quad \text{ג} \quad \theta \approx 110^\circ \quad \text{ב} \quad v_{\min} = \sqrt{gl^5} \quad \text{א} \quad (11)$$

תרגילים מסכמים למתקדמים:

שאלות:

1) מטוטלת כפולה מסתובבת אופקית*

גוף בעל מסה m_1 מחובר באמצעות חוט באורך l_1 לתקרה. גוף בעל מסה m_2 מחובר באמצעות חוט באורך l_2 לגוף הראשון. שני הגופים מסתובבים יחדיו בתדירות זוויתית קבועה ω סביב ציר האנך לתקרה. הזוויות בין החוטים לאנכים הן: α , β (ראה איור). א. רשום את משוואת התנועה לכל גוף.

ב. מצא מהי הזווית α עבור המקרה בו $m_2 = 0$ ו- $m_1 \neq 0$.

מהי תדירות הסיבוב המינימלית האפשרית?

ג. דני ויוסי ניסו למצא את ω במקרה הכללי.

דני הציב את גדלי המתיחויות של החוטים

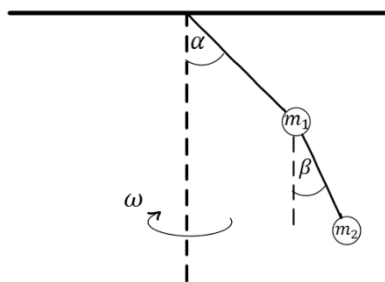
במשוואת התנועה של גוף 2

$$\text{וקיבל: } \omega^2 = \frac{g \tan \beta}{l_1 \sin \alpha + l_2 \sin \beta}$$

יוסי הציב את המתיחויות במשוואת התנועה

$$\text{של גוף 1 וקיבל: } \omega^2 = \frac{g}{l_1} \cdot \frac{\frac{m_1 + m_2}{m_1} \tan \alpha - \frac{m_2}{m_1} \tan \beta}{\sin \alpha}$$

ישב את הסתירה.



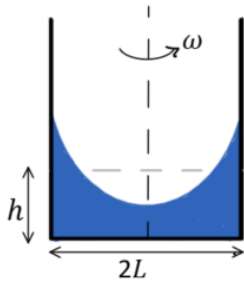
2) חבל עם מסה מסתובב*

נתון חבל אחיד בעל מסה m ואורך l .

החבל קשור בקצה אחד ומסתובב במישור אופקי במהירות זוויתית ω .

מצא את גודל המתיחות לאורך החבל (כתלות במרחק מהקצה הקשור).

רמז: יש לחלק את החבל לחתיכות קטנות ולעשות משוואת תנועה על כל חתיכה.

**(3) מים בכלי מסתובב****

תיבה באורך $2L$ ורוחב w כך ש- $w \ll L$ מכילה מים. גובה המים בתיבה הוא h .

מסובבים את התיבה במהירות זוויתית ω סביב ציר העובר במרכזה. הנח כי המים לא נשפכים מהתיבה.

א. מצאו את הפונקציה המתארת את פני המים במרחב (רמז: חשבו את השיפוע של המשיק לפני המים בנקודה כלשהיא, שיפוע זה הוא הנגזרת של הפונקציה).

ב. מהו הפרש הגבהים בין המים במרכז התיבה למים במרחק אופקי d מהמרכז?

ג. מה יהיה הפרש הגבהים אם נגדיל את מהירות הסיבוב פי 2?

ד. מהו התנאי שתחתית התיבה תתייבש בנקודה כלשהיא?

תשובות סופיות:

$$\text{גוף 1: } \sum F_x = m_1 \omega^2 l_1 \sin \alpha, \sum F_y = 0 \quad (1)$$

$$\text{גוף 2: } \sum F_x = m_2 \omega^2 (l_1 \sin \alpha + l_2 \sin \beta), \sum F_y = m_2 g$$

$$T(x) = \frac{m\omega^2}{2l} (l^2 - x^2) \quad (2)$$

$$\text{א. } y = \frac{\omega^2 x^2}{2g} + h - \frac{\omega^2 L^2}{6g} \quad (3)$$

$$\text{ג. } \Delta y = \frac{2\omega^2 d^2}{g}$$

$$\text{ב. } \Delta y = \frac{\omega^2 d^2}{2g}$$

$$\text{ד. } h = \frac{\omega^2 L^2}{6g}$$

פיזיקה 1 להנדסת אלקטרוניקה ותכנה 3 שעות שבועיות

פרק 12 - מומנט התמד - ירד במיקוד

תוכן העניינים

1. הקדמה - גוף קשיח וציר סיבוב (ללא ספר)
2. מומנט התמד, הסבר בסיסי וחישוב עבור גוף נקודת (ללא ספר)
3. משפט שטיינר ואדטיביות 148
4. נוסחאות לגופים נוספים וסיכום 151
5. תרגילים שונים לחישוב מומנט התמד 152

אדטיביות:

רקע

גוף קשיח:

הגדרה: המרחק בין כל שתי נקודות על הגוף תמיד קבוע.

אם גוף קשיח מסתובב סביב ציר סיבוב כל הנקודות על הגוף מבצעות תנועה מעגלית באותה המהירות הזוויתית (אך לא באותה מהירות קווית) מומנט התמד:

$$I = \sum m_i r_i^2$$

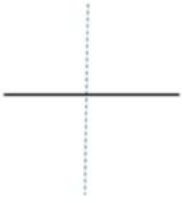




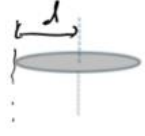



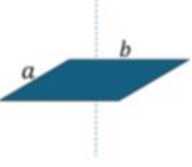
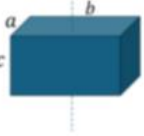
הגדרה - עבור מערכת של גופים נקודתיים

משפט שטיינר - $I' = I_{c.m.} + md^2$ כאשר d הוא המרחק בין הצירים ו m היא המסה הכוללת של הגוף

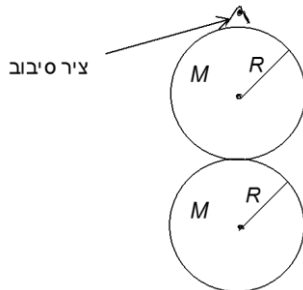
הערה: משפט שטיינר פועל רק לצירים מקבילים, ורק כאשר אחד הצירים עובר במרכז המסה.

אדטיביות - מומנט ההתמד הוא פונקציה אדטיבית, כלומר ניתן לסכום את המומנט התמד של כל חלק וחלק בגוף על מנת לקבל את המומנט הכולל. $I_T = I_1 + I_2$

נוסחאות מומנט התמד של גופים נפוצים:

	מוט במרכז המסה $I_{c.m.} = \frac{1}{12} mL^2$	<div style="display: flex; justify-content: space-around;"> <div style="text-align: center;"> <p>גליל חלול</p>  </div> <div style="text-align: center;"> <p>גוף נקודתי</p>  </div> </div> <p>טבעת (חלולה)</p> 	גוף נקודתי סביב ציר כלשהו $I = mR^2$ טבעת וגליל חלול סביב הציר המרכזי $I_{c.m.} = mR^2$
	מוט בקצה $I = \frac{1}{3} mL^2$	<div style="display: flex; justify-content: space-around;"> <div style="text-align: center;"> <p>דיסקה / גליל מלא</p>  </div> <div style="text-align: center;">  </div> </div> <p>במרכז מסה סביב ציר z-אנך לדיסקה</p>	$I_{c.m.} = \frac{1}{2} mR^2$
	כדור מלא במרכז מסה $I_{c.m.} = \frac{2}{5} mR^2$		דיסקה במרכז מסה סביב ציר x-במישור הדיסקה $I_{c.m.} = \frac{1}{4} mR^2$
 	תיבה או לוח במרכז מסה $I_{c.m.} = \frac{m(a^2 + b^2)}{12}$		

שאלות:



- (1) **שעון כפול תלוי על קיר**
 לדסקה בעלת מסה M ורדיוס R מחברים דסקה נוספת זהה בקצה התחתון של הדסקה. מצא את מומנט ההתמד של המערכת סביב ציר המאונך למישור הדסקה והעובר בקצה העליון של הדסקה (הראשונה).

תשובות סופיות:

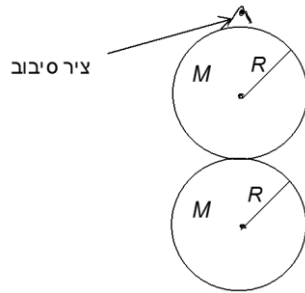
$$I = 11mR^2 \quad (1)$$

אדטיביות:

שאלות:

(1) דוגמה

לדסקה בעלת מסה M ורדיוס R מחברים דסקה נוספת זהה בקצה התחתון של הדסקה. מצא את מומנט ההתמד של המערכת סביב ציר המאונך למישור הדסקה והעובר בקצה העליון של הדסקה (הראשונה).

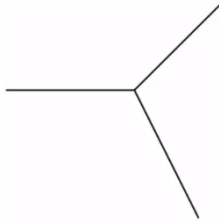


תשובות סופיות:

$$I = 11mR^2 \quad (1)$$

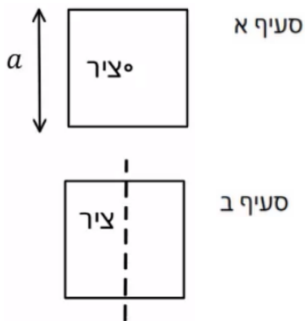
תרגילים שונים לחישוב מומנט התמד:

שאלות:



(1) שלושה מוטות מחוברים בקצה

שלושה מוטות זהים באורך l ומסה m כל אחד מחוברים באופן המוצג באיור. מצא את מומנט ההתמד של המערכת סביב ציר הנמצא בנקודת החיבור בין המוטות ובמאונך למישור.



(2) מסגרת ריבועית

נתונה מסגרת ריבועית בעלת אורך צלע a ומסה M . מצא את מומנט ההתמד של מסגרת. א. סביב ציר העובר במרכזה ומאונך למישור המסגרת. ב. סביב ציר העובר במרכז המסגרת ודרך מרכז שתי צלעות ומקביל לשתי הצלעות האחרות.



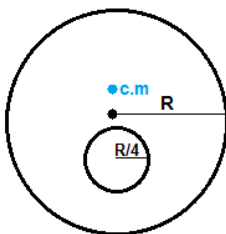
(3) מומנט התמד של שער חשמלי

מצא את מומנט ההתמד של שער חשמלי בעל מסה m ואורך l אשר בסופו מחוברת משקולת בעלת מסה M ואורך L המסתובב סביב מרכז המסה שלו.



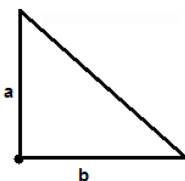
(4) מומנט התמד של ריש

מצא את מומנט ההתמד של הגוף שבשרטוט סביב מרכז המסה שלו בשתי דרכים שונות. אורך כל מוט l ומסתו m .



(5) דיסקה עם חור

א. מצא את מומנט ההתמד של דיסקה בעלת מסה M ורדיוס R , אם ידוע כי במרחק R ממוקד החור קדחו חור ברדיוס רבע R . הדיסקה מסתובבת סביב ציר במרכזה (ולא במרכז המסה של המערכת).
ב. מצא את מומנט ההתמד של הגוף סביב מרכז המסה שלו.



(6) מומנט התמד של משולש

מצא את מומנט ההתמד של המשולש סביב קודקודו הישר.

תשובות סופיות:

$$I_{c.m.} = ml^2 \quad (1)$$

$$I = \frac{M}{8} \left(a^2 + \frac{l^2}{3} \right) \quad \text{ב.} \quad I_{c.m.} = \frac{M}{4} \left(\frac{l^2}{3} + a^2 \right) \quad \text{א.} \quad (2)$$

$$I = \left(\frac{1}{12} ml^2 + m \left(\frac{m \cdot 0 + \frac{M(1+L)}{2}}{m+M} \right)^2 \right) + \left(\frac{1}{12} (L^2 + L^2) M + M \left(\frac{1}{2} - \left(\frac{m \cdot 0 + \frac{M(1+L)}{2}}{m+M} \right) + \frac{L}{2} \right)^2 \right) \quad (3)$$

$$I = \frac{5}{12} ml^2 \quad (4)$$

$$I_0 = I_{c.m.} + \frac{15}{16} M \cdot \left(\frac{R}{30} \right)^2 \quad \text{ב.} \quad I_0 = \frac{247}{512} MR^2 \quad \text{א.} \quad (5)$$

$$I_0 = \frac{1}{6} m(a^2 + b^2) \quad (6)$$

פיזיקה 1 להנדסת אלקטרוניקה ותכנה

3 שעות שבועיות

פרק 13 - מומנט כוח -

תוכן העניינים

154	1. מומנט כוח - הסבר
(ללא ספר)	2. מכפלה וקטורית
156	3. תרגיל - מומנטים על משולש
(ללא ספר)	4. פיתוח, מדוע מתייחסים לכוח הכובד כאילו פועל במרכז המסה
(ללא ספר)	5. משוואת מומנטים
157	6. תרגיל - שני פועלים מחזירים מנשא
158	7. תרגילים מסכמים

מומנט כוח - הסבר:

רקע

$$\vec{\tau} = \vec{r} \times \vec{F}$$

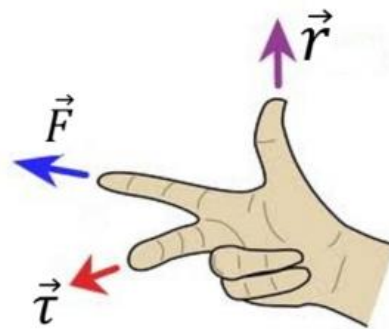
כאשר \vec{r} הוא וקטור שיוצא מהציר עד לנקודה שבה פועל הכוח.

ניתן לחשב את המכפלה באמצעות דטרמיננטה או באמצעות גודל וכיוון גודל המומנט :

$$|\vec{\tau}| = |\vec{r}| |\vec{F}| \sin \alpha = |\vec{F}| r_{\perp}$$

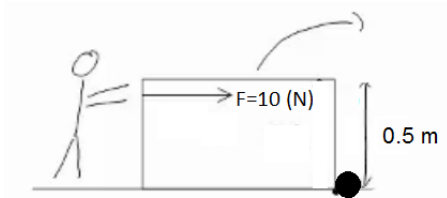
כאשר r_{\perp} הוא הרכיב של \vec{r} המאונך לכוח

כיוון לפי כלל יד ימין או כלל הבורג



משוואת מומנטים : אם גוף נמצא במנוחה אז סכום המומנטים הפועלים עליו שווה לאפס.

שאלות:



- (1) **מרחק אפקטיבי**
 אדם דוחף ארגז בגובה 0.5m ומפעיל כוח F (ראו תמונה).
 לארגז אין חיכוך עם המשטח.
 האדם דוחף את הארגז ללא כל בעיה עד שנתקע באבן והארגז מתהפך (מיקום האבן הופך לציר הסיבוב).
 חשבו את גודל מומנט הכוח.

תשובות סופיות:

$$|\vec{\tau}| = 5N \cdot m \quad (1)$$

תרגיל - מומנטים על משולש:

שאלות:

(1) מומנטים על משולש

המשולש בתמונה הוא משולש שווה צלעות עם אורך צלע נתונה a .

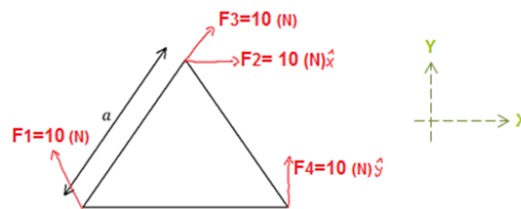
א. חשב את המומנטים של הכוחות בתמונה סביב הפינה השמאלית של המשולש.

ב. נתונה המסה של המשולש M ונתון גם כי מרכז המסה של המשולש

$$\text{נמצא בנק': } \left(\frac{1}{2}a, \frac{1}{2\sqrt{3}}a \right)$$

חשב את מומנט הכוח של כוח הכובד.

ג. חשב שוב את המומנטים סביב ציר העובר במרכז המסה של המשולש, הנח כי הזווית בין F_1 לדופן המשולש היא 60 מעלות.



תשובות סופיות:

$$\tau_g = -Mg \frac{1}{2}a \quad \text{ב.} \quad \tau_1 = 0!, \quad \vec{\tau}_2 = -5 \cdot \sqrt{3}a, \quad \vec{\tau}_3 = 0!, \quad \tau_4 = 10a \quad \text{א.} \quad (1)$$

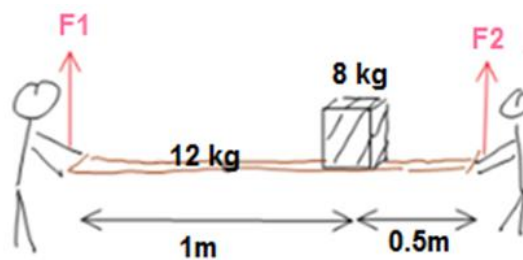
$$\tau_1 = \frac{-10a}{\sqrt{3}}, \quad \tau_2 = -10 \cdot \frac{1}{\sqrt{3}}a, \quad \tau_3 = -\frac{1}{\sqrt{3}}a \cdot 10 \cdot \sin 30^\circ, \quad \tau_4 = 10 \cdot \frac{1}{2}a, \quad \tau_g = 0 \quad \text{ג.}$$

תרגיל - שני פועלים מחזיקים מנשא:

שאלות:

(1) שני פועלים מחזיקים מנשא

שני פועלים מחזיקים מנשא מעץ שמסתו 12kg ואורכו 1.5m. על המנשא, במרחק של 0.5m מהפועל הימני, מונח ארגז בעל מסה של 8kg. בהנחה כי המערכת במנוחה, מצאו את הכוח שמפעיל כל פועל (ראה איור).



תשובות סופיות:

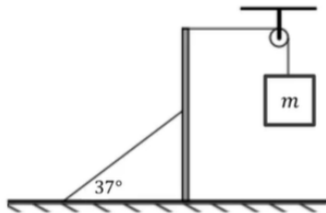
$$F_2 = 113.333\text{N}, F_1 = 86.666\text{N} \quad (1)$$

תרגילים מסכמים:

שאלות:

(1) מוט עומד מחובר לחוט ומשקולת

מוט אחיד מונח על משטח אופקי לא חלק, כמוראה בתרשים. המוט מחובר במרכזו לחוט אידיאלי שקצהו השני קשור למשטח ויוצר עימו זווית של 37° . הקצה העליון של המוט מחובר באמצעות חוט אופקי אידיאלי וגלגלת אל משקולת שמסתה $m = 7\text{kg}$. המערכת נמצאת במנוחה.



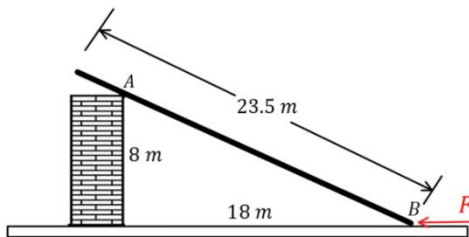
א. מהי המתוחות בחוט המחבר אל המשטח?

ב. מהו כוח החיכוך שמפעיל המשטח האופקי על המוט?

(2) קורה על קיר אנכי

באיור לשאלה זו מתוארת קורה אחידה שאורכה הכולל הוא 23.5m . מסת הקורה היא 140kg .

הקורה נשענת בנקודה A על קיר אנכי חלק שגובהו 8m .



קצה הקורה מונח על הרצפה בנקודה B במרחק 18m מהקיר ובקצה הזה פועל כוח אופקי F , כמתואר באיור.

מקדם החיכוך הסטטי שבין הקורה הרצפה הוא $\mu_s = 0.3$.

מהו F המקסימלי הניתן להפעיל כך שהקורה תישאר במנוחה?

(3) מוט נשען על כדור

נתון מוט דק שאורכו $L = 3.5\text{m}$ ומסתו $m = 7\text{kg}$. הנשען על כדור חסר חיכוך המודבק לרצפה כמתואר בשרטוט.

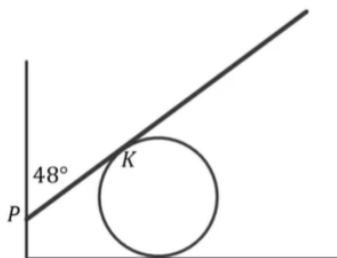
נקודת המגע של המוט בכדור היא הנקודה K.

בקצהו השמאלי נוגע המוט בקיר בעל חיכוך

בנקודה P, הזווית שיוצר המוט יחסית לקיר

היא 48° . מקדם החיכוך הסטטי שבין הקיר למוט

הוא $\mu_s = 0.15$.

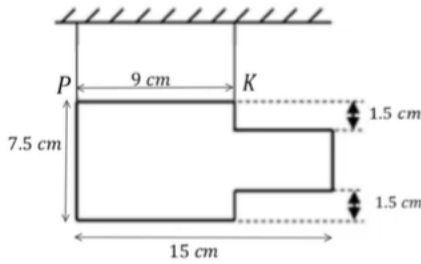


א. מהו הכוח שמפעיל הכדור על המוט אם

נתון שקצהו הימני של המוט נמצא על סף תנועה כלפי מטה?

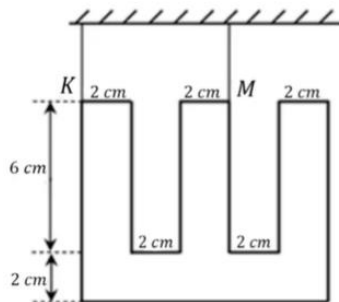
ב. מהו המרחק בין הנקודות P ו-K במצב זה?

(4) טבלה מעץ



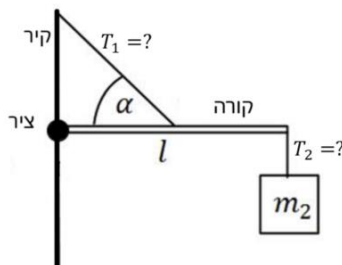
טבלה העשויה עץ בעלת עובי אחיד שמסתה 400 גר' וצורתה כמתואר בתרשים, תלויה בשני חוטים בנקודות K ו-P.
 א. חשב את מרכז הכובד של הטבלה ביחס למערכת צירים שראשיתה ממוקמת בנקודה P.
 ב. מצא את המתיחות בשני החוטים.

(5) שלט בצורת האות ש




שלט העשוי מחומר אחיד בצורת האות "ש" (כמשורטט), שמסתו 4 ק"ג, נתלה בשני חוטים בנקודות K ו-M.
 א. חשבו את מרכז המסה של השלט ביחס למערכת צירים שראשיתה ממוקמת בנקודה K.
 ב. מצאו את המתיחות בשני החוטים.

(6) מסה תלויה על קורה שמחוברת לקיר



קורה בעלת מסה m_1 ואורך l מחוברת לקיר באמצעות ציר. בקצה הקורה קשורה מסה m_2 התלויה במנוחה. מאמצע הקורה יוצא חוט בזווית הקשור חזרה לקיר, הזווית שיוצר החוט עם הקורה היא α .
 א. מהי המתיחות בחוטים?
 ב. מהו הכוח (גודל וכיוון) שמפעיל הציר?

(7) סולם נשען על קיר



סולם נשען על קיר. קיים חיכוך סטטי בין הסולם לרצפה וגם בין הסולם לקיר. מקדם החיכוך הסטטי בין הסולם לרצפה ובין הסולם לקיר הוא μ_s . אורך הסולם הוא L וניתן להניח שמסתו מפולגת בצורה אחידה. מהי הזווית המינימלית עם הרצפה כך שהסולם לא יחליק?

(8) אדם עומד על סולם שנשען על קיר

אדם עומד על סולם שנשען על קיר.

אורך הסולם הוא L וניתן להניח שמסתו מפולגת


בצורה אחידה. האדם עומד על הסולם כשמרחקו מהקצה התחתון של הסולם הוא שני שליש מאורך הסולם.

קיים חיכוך סטטי בין הסולם לרצפה וגם בין הסולם לקיר.

מקדם החיכוך הסטטי בין הסולם לרצפה ובין הסולם לקיר

הוא μ_s . מסת האדם כפולה ממסת הסולם.

מהי הזווית המינימלית עם הרצפה כך שהסולם לא יחליק?



(9) מומנטים על שער

שער שגובהו h ואורכו l מחובר לקיר בשני צירים a ו- b .

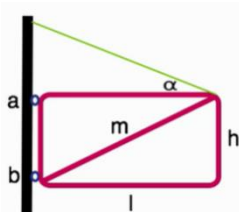
על מנת להקל על הציר העליון חיברו לשער כבל ומתחו

אותו עד אשר הכוח האופקי בנקודה a מתאפס.

א. מהי המתיחות בכבל?

ב. מהו הכוח האופקי הפועל על הציר b ?

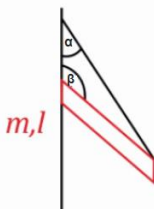
ג. מהו סכום הכוחות האנכיים המופעלים על שני הצירים?



(10) גגון מוחזק אל קיר

גגון מוחזק אל קיר בעזרת חבל וחיכוך כמתואר בשרטוט.

מצא את הכוחות הפועלים על הגגון.

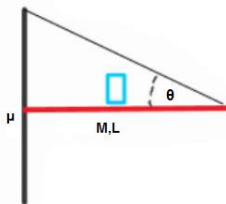


(11) מסה על גגון מחליק

גגון מוחזק לקיר בעזרת חיכוך בלבד לפי הנתונים שבשרטוט.

מהו המרחק הקטן ביותר מהקיר בו ניתן לשים את המסה m

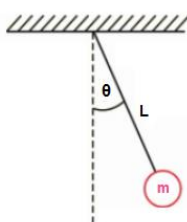
מבלי לגרום לגגון להחליק מהקיר?



(12) מטוטלת מתמטית

מצא את מומנט הכוח המופעל על מטוטלת מתמטית

כפונקציה של הזווית מהאנך.

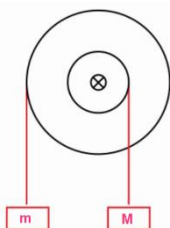


(13) מנוף מדיסקה כפולה

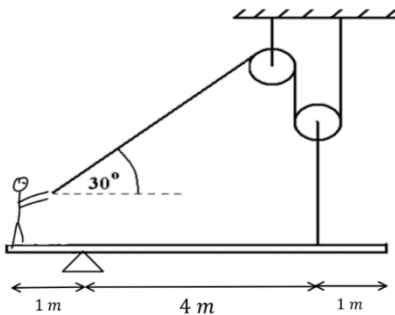
נתונה המערכת שבשרטוט.

רשום את כל הכוחות הפועלים על הדיסקה

ומצא את יחס הרדיוסים בין שתי הדיסקות.



14) אדם על קורה מחזיק בחוט ושתי גלגלות



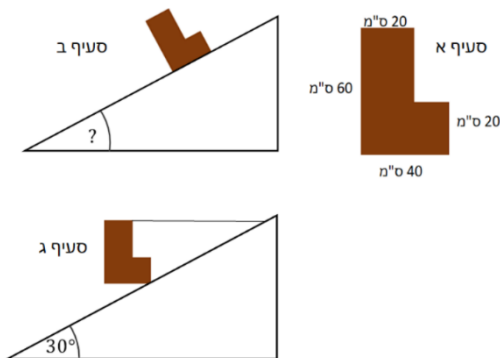
אדם שמסתו 65kg עומד בקצה קורה שמסתה 40kg. הקורה מונחת על ציר הנמצא במרחק 1m מהאדם. האורך הכולל של הקורה הוא 6m. האדם מחזיק בחוט העובר דרך שתי גלגלות כפי שמתואר באיור. הגלגלת השמאלית מחוברת לתקרה, הגלגלת הימנית לקורה במרחק 1m מהקצה השני.

- מהו הכוח בו האדם צריך למשוך את החבל כדי לשמור על מצב של שיווי משקל?
- מהם רכיבי הכוח שהציר מפעיל על הקורה?
- מהו מקדם החיכוך הסטטי המינימאלי בין האדם לקורה כדי שהאדם לא יחליק מהקורה?

15) L על מישור משופע*

באיור נתון גוף משטחי בצורת L.

צפיפות המסה של הגוף היא: $\sigma = 5 \frac{\text{kg}}{\text{m}^2}$.

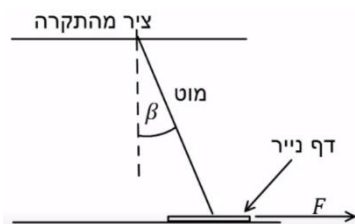


- מהו מרכז המסה של הגוף ביחס לפינה התחתונה השמאלית?
- מניחים את הגוף על מישור משופע. מהי הזווית המקסימאלית של המישור עבורה הגוף לא יתהפך?
- קושרים את הגוף למישור באמצעות חוט אופקי מהפינה הימנית העליונה ומותחים את החוט עד שהגוף מתיישר במקביל לקרקע.

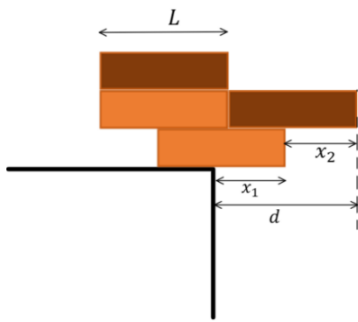
מהי המתוחות בחוט במצב זה אם זווית המישור היא 30° והגוף במנוחה.

16) מוט נשען על דף נייר*

מוט בעל אורך L ומסה M מחובר לתקרה באמצעות ציר. בקצהו השני המוט מונח על דף נייר המונח על הרצפה. מסת דף הנייר זניחה. הזווית בין המוט לאנך היא β ומקדם החיכוך הסטטי בין המוט לנייר ובין הנייר לרצפה הוא μ_s .

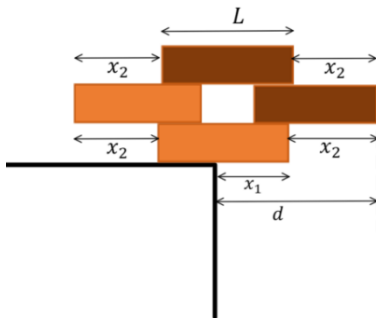


- מושכים את הנייר ימינה בכוח F. מהו הכוח המינימלי הדרוש בשביל להוציא את הנייר מתחת למוט? הנח שהמוט נשאר במנוחה.
- חזור על סעיף א' אם הכוח פועל שמאלה.



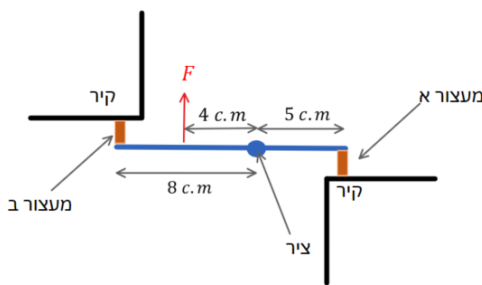
17) ערימת קוביות 1

ערימת קוביות מורכבת מ-4 קוביות זהות באורך L . הקוביות מסודרות באופן שמתואר באיור. מהו המרחק d המקסימאלי האפשרי כך שהערימה לא תיפול מהשולחן. מהם x_1 ו- x_2 במצב זה?




18) ערימת קוביות *2

ערימת קוביות מורכבת מ-4 קוביות זהות באורך L . הקוביות מסודרות באופן שמתואר באיור. מהו המרחק d המקסימאלי האפשרי כך שהערימה לא תיפול מהשולחן. מהם x_1 ו- x_2 במצב זה?



19) מוט עם שני מעצורים מגומי**

באיור ישנו מוט באורך 13c.m. המחובר בציור הנמצא במרחק 5c.m. מהקצה הימני בשני הקצוות של המוט ישנם מעצורים זהים העשויים מגומי. מפעילים כוח $F = 200\text{N}$ במרחק 4c.m. שמאלה מהציור, הכוח גורם לכיווץ קטן של המעצורים. המערכת אופקית, כלומר כוח הכובד פועל לתוך הדף וניתן להתעלם ממנו. מהו הכוח שפועל על כל מעצור? רמז: התייחס למעצורים כמו קפיצים בעלי קבוע k זהה.



20) אדם על סולם עם שתי רגליים**

אדם עומד על סולם בעל שתי רגליים המחוברות באמצעות כבל במרכז הסולם. משקל האדם הוא 800 ניוטון וניתן להזניח את משקל הסולם ואת החיכוך עם הרצפה. נתונים אורכי הקטעים הבאים: $KM = OM = 2.34\text{m}$, $KP = 1.70\text{m}$, $LN = 0.746\text{m}$.
 א. מצא את הכוחות שפועלים בנקודות O ו-K.
 ב. מצאו את המתוחות בכבל.
 רמז: יש לעשות משוואה רק על חלק מהסולם.

תשובות סופיות:

$$\text{א. } T_2 \approx 180\text{N} \quad \text{ב. } f_s = T_1 = 70\text{N}, \text{ ימינה.} \quad (1)$$

$$F_{\max} \approx 521\text{N} \quad (2)$$

$$\text{א. } N_2 \approx 110\text{N} \quad \text{ב. } PK \approx 0.84\text{m} \quad (3)$$

$$\text{א. } x_{c.m.} = 6.6c.m., y_{c.m.} = 3.75c.m. \quad \text{ב. } T_2 = 3\text{N}, T_1 = 1\text{N} \quad (4)$$

$$\text{א. } x_{c.m.} = 5c.m., y_{c.m.} \approx 4.4c.m. \quad \text{ב. } T_K = 6.7\text{N}, T_M = 33.3\text{N} \quad (5)$$

$$\text{א. } T_1 = \frac{(m_1 + 2m_2)g}{\sin \alpha}, T_2 = m_2g \quad (6)$$

$$\text{ב. } F = \sqrt{((m_1 + 2m_2)g \cot \alpha)^2 + (m_2g)^2}, \tan \theta = -\frac{m_2}{m_1 + 2m_2} \tan \alpha$$

$$\tan \theta = \frac{1 - \mu_s^2}{2\mu_s} \quad (7)$$

$$\tan \theta = \frac{11 - 7\mu_s^2}{18\mu_s} \quad (8)$$

(9) ראה סרטון.

(10) ראה סרטון.

(11) ראה סרטון.

$$\sum \tau = -mgl \sin \theta + Tl \sin \theta = -mgl \sin \theta \quad (12)$$

$$\sum \tau = \frac{m}{M} = \frac{r}{R} \quad (13)$$

$$\text{א. } T_1 = 20\text{N} \quad \text{ב. } F_x = 10\sqrt{3}\text{N}, F_y = 1000\text{N} \text{ שמאלה} \quad (14)$$

$$\mu_{s_{\min}} = 0.027 \quad \text{ג.}$$

$$\text{א. } x_{c.m.} = 0.15\text{m}, y_{c.m.} = 0.25\text{m} \quad \text{ב. } \alpha = 31^\circ \quad (15)$$

$$\text{ג. } T = 3.3\text{N}$$

$$\text{א. } F_{\min} = \frac{\mu_s mg \sin \beta}{\sin \beta + \mu_s \cos \beta} \quad \text{ב. } F_{\min} = \frac{\mu_s mg \sin \beta}{\sin \beta + \mu_s \cos \beta} \quad (16)$$

$$x_1 = \frac{5L}{8}, x_2 = \frac{L}{2}, d = \frac{9L}{8} \quad (17)$$

$$x_1 = \frac{L}{2}, x_2 = \frac{2L}{3}, d = \frac{7L}{6} \quad (18)$$

$$F_R \approx 45\text{N}, F_L \approx 72\text{N} \quad (19)$$

$$\text{א. } N_O \approx 291\text{N}, N_k = 509\text{N} \quad \text{ב. } T_L \approx 196\text{N} \quad (20)$$

פיזיקה 1 להנדסת אלקטרוניקה ותכנה 3 שעות שבועיות

פרק 14 - גוף קשיח - ירד במיקוד

תוכן העניינים

164	1. הגדרות, ציר סיבוב ותנע קווי
165	2. אנרגיה סיבובית של גוף קשיח
168	3. ניתוח לפי כוחות ומומנטים וגלגול ללא החלקה
171	4. גלגול עם החלקה
172	5. תרגילים מסכמים

הגדרות, ציר סיבוב ותנע קווי:

רקע:

הגדרה: המרחק בין כל שתי נקודות על הגוף תמיד קבוע.

אם גוף קשיח מסתובב סביב ציר סיבוב כל נקודות על הגוף מבצעות תנועה מעגלית באותה מהירות הזוויתית (אך לא באותה מהירות קווית)

תנע קווי של גוף קשיח:

$$\vec{p} = M\vec{v}_{c.m.}$$

אנרגיה סיבובית של גוף קשיח:

רקע:

אנרגיה קינטית סיבובית סביב ציר קבוע כלשהו:

$$E_k = \frac{1}{2} I \omega^2$$

אנרגיה קינטית עבור ציר לא קבוע (תנועה משולבת) העובר במרכז המסה:

$$E_k = \frac{1}{2} m v_{c.m.}^2 + \frac{1}{2} I_{c.m.} \omega^2$$

אנרגיה קינטית עבור ציר לא קבוע (תנועה משולבת) כלשהו*:

$$E_k = \frac{1}{2} m v_o^2 + \frac{1}{2} I_o \omega^2 + m \vec{r}_{c.m.,o} \cdot (\vec{v}_o \times \vec{\omega})$$

I_o - מומנט ההתמד ביחס לציר

\vec{v}_o - היא מהירות הציר

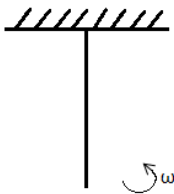
$\vec{r}_{c.m.,o}$ - מיקום מרכז המסה ביחס לציר

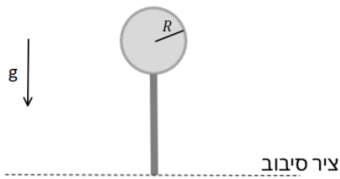
* השימוש בנוסחה מאוד נדיר

שאלות:

(1) מוט מסתובב

מוט באורך L ומסה M מחובר לתקרה באמצעות ציר ויכול להסתובב. למוט מהירות זוויתית התחלתית ω . מהי הזווית המקסימאלית אליה יגיע המוט?





2) דיסקה מחוברת למוט נופלת ממצב אנכי

גוף קשיח מורכב ממוט בעל אורך L ומסה M המחובר בקצה אחד לדיסקה מלאה בעלת מסה m המפולגת באופן אחיד ורדיוס R .

בקצה השני, המוט מחובר לציר אופקי.

המוט חופשי להסתובב סביב הציר (כלומר הגוף יכול לעשות סיבוב אנכי סביב הציר).

הגוף מתחיל מהמצב המתואר באיור (מצב אנכי לא יציב) ומקבל דחיפה קטנה לתוך הדף. מה תהיה המהירות הזוויתית של הגוף כאשר יגיע לנקודה הנמוכה ביותר?

תשובות סופיות:

$$\cos \theta = 1 - \frac{L\omega_0^2}{3g} \quad (1)$$

$$\omega = \sqrt{\frac{2MgL + 2mg(L+R)}{\frac{ML}{3} + \frac{1}{4}mR^2 + m(L+R)^2}} \quad (2)$$

ניתוח לפי כוחות ומומנטים וגלגול ללא החלקה:

רקע:

טבלת השוואה בין תנועה סיבובית לתנועה בקו ישר

תנועה בקו ישר	תנועה סיבובית
x	θ
$v = \dot{x}$	$\omega = \dot{\theta}$
$a = \dot{v} = \ddot{x}$	$\alpha = \dot{\omega} = \ddot{\theta}$
m	I
p	L
F	τ

כל הנוסחאות זהות בהחלפת אותיות

גלגול ללא החלקה:

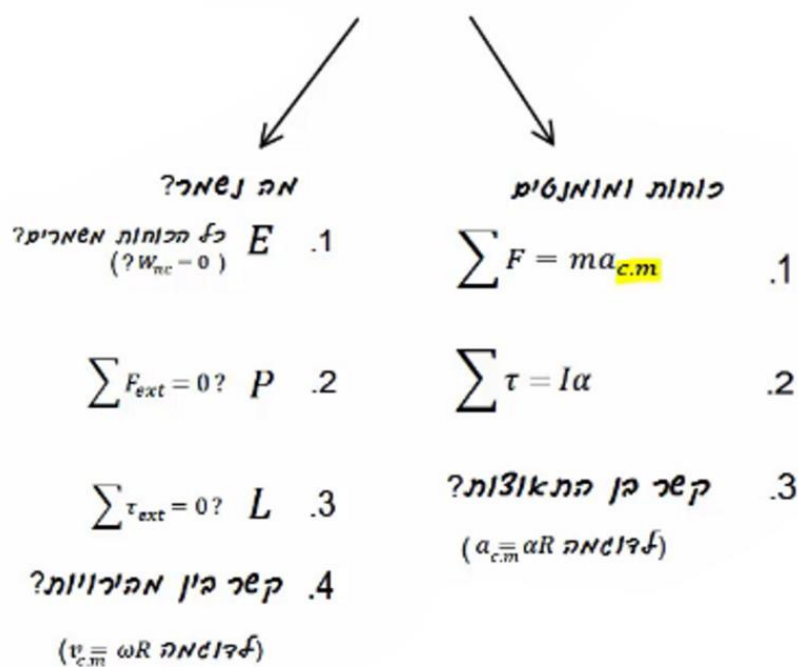
מהירות הנקודה שנוגעת במשטח שווה לאפס

$$v_{c.m.} = \omega R$$

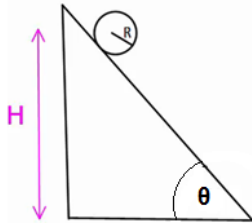
$$a_{c.m.} = \alpha R$$

בגלגול ללא החלקה החיכוך הוא סטטי ולכן אין איבוד אנרגיה.

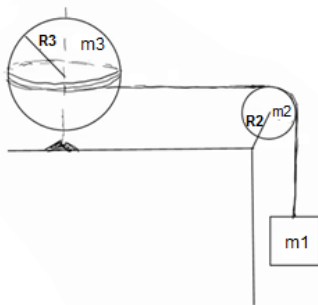
איך ניצלים את הנתונים?



שאלות:

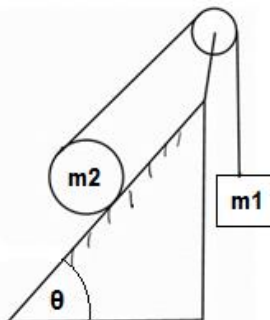
**(1) דוגמה - כדור על מדרון משופע**

- כדור בעל רדיוס R מונח בגובה H על מדרון משופע בעל זווית α . הכדור מתחיל להתגלגל ללא החלקה.
- א. מצאו את מהירות הכדור בתחתית המדרון.
- ב. מצאו את תאוצת הכדור.

**(2) גלובוס**

- גלובוס (כדור) מונח ומקובע לשולחן ויכול להסתובב סביב ציר המאונך לשולחן.
- מלפפים חוט סביב מרכז הגלובוס (סביב קו המשווה) והחוט ממשיך מהגלובוס דרך גלגלת לא אידיאלית למסה תלויה m_1 .

- נתונים גם: m_2 ו- R_2 מסה ורדיוס הגלגלת, m_3 ו- R_3 מסה ורדיוס הגלובוס.
- המערכת מתחילה ממנוחה.
- מצא את תאוצת כל הגופים, קווית וזוויתית ואת המתיחות בחוט.

**(3) יויו במישור מחובר למסה**

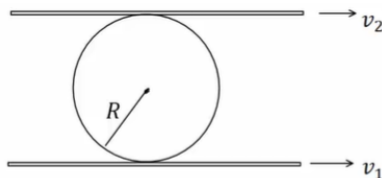
- יויו (כדור שמלופף סביבו חוט) בעל מסה m_2 ורדיוס R מונח על מישור משופע בעל זווית θ .
- החוט של היויו מחובר דרך גלגלת אידיאלית למסה m_1 .
- נתון כי היויו מתגלגל ללא החלקה על המישור וכי קיים חיכוך בין היויו למישור.
- א. מצא לאן תנוע המערכת וכיוון החיכוך הסטטי.
- ב. מצא את תאוצות הגופים וגודל כוח החיכוך.

4) מוט אופקי נופל

מוט בעל מסה M (צפיפות אחידה) ואורך L תלוי בקצהו לקיר וחופשי להסתובב סביב נקודת התלייה. משחררים את המוט ממצב מופקי.



- א. מצא את התאוצה הזוויתית ואת תאוצת מרכז המסה של המוט ברגע השחרור. כעת המוט נופל עד להגיעו למצב מאונך לקרקע.
- ב. מצא את הכוח שמפעיל הציר שמחבר את המוט לקיר על המוט, ברגע השחרור.
- ג. מצא את המהירות הזוויתית של המוט ברגע זה (כשהוא מאונך לקרקע).
- ד. חזור על סעיפים א' ו-ב' עבור רגע זה.

5) משטח מלמעלה ומשטח מלמטה

כדור בעל רדיוס R לחוץ בין שני משטחים נעים. המשטח מתחת לכדור נע במהירות v_1 והמשטח מעליו נע במהירות v_2 .

- א. מהי מהירות מרכז המסה של הכדור אם ידוע שהוא מתגלגל ללא החלקה ביחס לשני המשטחים?
- ב. חזור על סעיף א' אם המשטח העליון נע בכיוון ההפוך.

תשובות סופיות:

$$(1) \quad \text{א. } mgH = \frac{1}{2} m v_{c.m.}^2 + \frac{1}{2} \left(\frac{2}{5} m R^2 \right) \left(\frac{v_{c.m.}}{R} \right)^2 \quad \text{ב. } a = \frac{5}{7} g \sin \theta$$

(2) ראה סרטון.

(3) ראה סרטון.

$$(4) \quad \text{א. } a_{c.m.} = \frac{3}{4} g = a_y, a_x = a_r = 0, \alpha = \frac{3}{2} \frac{g}{L} \quad \text{ב. } \sum F_y = m a_{y_{c.m.}}, \sum F_x = m a_{x_{c.m.}}$$

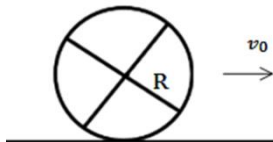
$$\text{ג. } mg \frac{L}{2} = \frac{1}{2} I \omega^2$$

$$\text{ד. } \sum F_y = m a_{y_{c.m.}}, \sum F_x = m a_{x_{c.m.}}, a_\theta = 0 = a_{x_{c.m.}}, a_y = a_r = -\omega^2 \frac{L}{2}, \alpha = 0$$

$$(5) \quad \text{א. } v_{c.m.} = \frac{v_1 + v_2}{2} \quad \text{ב. } v_{c.m.} = \frac{v_1 - v_2}{2}$$

גלגול עם החלקה:

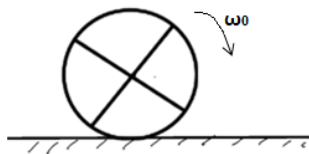
שאלות:



(1) כדור מחליק ללא סיבוב

כדור הומוגני בעל מסה M מתחיל תנועתו עם מהירות V_0 ללא סיבוב (מהירות זוויתית).

מצא את מהירותו הסופית אם נתון מקדם החיכוך הקינטי.



(2) כדור מסתובב מונח על רצפה

כדור הומוגני בעל מסה M מוחזק באוויר ומסתובב סביב מרכז המסה שלו במהירות זוויתית ω_0 .

הכדור מונח על הרצפה בעודו מסתובב.

מצא את מהירותו הסופית אם נתון מקדם החיכוך הקינטי μ_k .

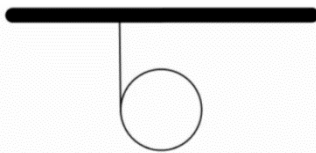
תשובות סופיות:

$$V_{\text{final}} = \frac{5}{7} V_0 \quad (1)$$

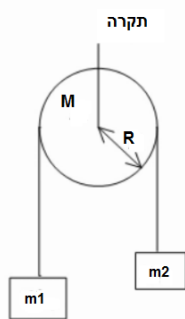
$$V_{\text{final}} = \frac{2}{7} \omega_0 R \quad (2)$$

תרגילים מסכמים:

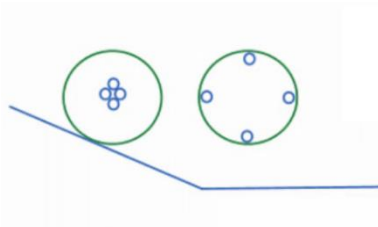
שאלות:



- (1) **חישוק מתגלגל מחבל**
 חבל מלופף סביב חישוק בעל רדיוס R ומסה m .
 (החבל מחובר לתקרה).
 א. מהי תאוצת מרכז המסה של החישוק?
 ב. לאחר כמה זמן ירד החישוק גובה של h אם התחיל תנועתו ממנוחה?



- (2) **מסות וגלגלת**
 שתי מסות שונות m_1, m_2 תלויות משני הצדדים של גלגלת לא אידיאלית המקובעת במרכזה.
 המסות משוחררות ממנוחה.
 מצא את תאוצת המסות אם נתון:
 מסת הגלגלת, R רדיוס הגלגלת וכי החוט אינו מחליק על הגלגלת.



- (3) **שתי דיסקות שונות במדרון**
 בגן המדע שבמכון ויצמן יש שתי דיסקות קלות אליהן מודבקות 4 מסות כבדות כמתואר בשרטוט. את הדיסקות מניחים על שני מדרונים ובודקים מי תנוע בהגיעה למישור מהר יותר.
 הסבר כיצד ניתן לחשב מהירות זו על פי נתוני המערכת.

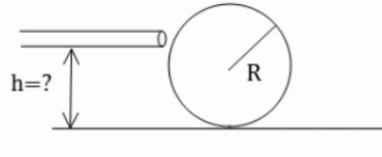


- (4) **שני חישוקים מתגלגלים מחבל**
 חישוק בעל מסה m ורדיוס R תלוי מחבל המלופף סביבו.
 א. מה תהיה מהירותו לאחר שנפל מגובה h ?
 מה תהיה תאוצתו? כמה זמן תארך הנפילה?
 חישוק אחר חסר מסה בעל רדיוס R מכיל מסה נקודתית במרכזו בעלת מסה m .
 ב. מה תהיה מהירותו לאחר שנפל מגובה h ?
 ג. מה תהיה מהירותו אם החבל יהיה ללא חיכוך?

(5) מכה בכדור ללא החלקה

כדור סנוקר ברדיוס R נמצא במנוח על שולחן ללא חיכוך (חיכוך נמוך מאוד).

מצא באיזה גובה מעל תחתית הכדור יש לתת מכה אופקית עם המקל כך שהכדור יתגלגל ללא החלקה.



$$I_{c.m} = \frac{2}{5} mR^2 \quad \text{מומנט ההתמד של הכדור הוא:}$$

הדרכה: ערוך תרשים כוחות ונתח את הבעיה בשלב המכה עצמה.

(6) חוט מושך דיסקה ללא החלקה - תרגיל פשוט

חוט מלופף מסביב לגליל המונח על מישור שאינו חלק. רדיוס הגליל הוא R ומסתו M .

כוח F נתון מושך את הגליל.

מצא את תאוצת הגליל במקרים הבאים אם ידוע שהגליל מתגלגל ללא החלקה:

א. הכוח פועל בכיוון אופקי.

ב. הכוח פועל בזווית θ ביחס לאופק וידוע שהגליל אינו מתרומם.

ג. מה כיוון החיכוך בכל מקרה?

**(7) יויו מתגלגל (חוט מלמעלה)**

יויו מורכב מגליל ברדיוס r ומסה m .

משתי צידי הגליל מחוברות דסקות ברדיוס $R > r$ ומסה M כל אחת.

סביב הגליל ובמרכזו מלופף חוט.

היויו מונח על משטח לא חלק ומושכים את החוט בכוח F קבוע

בכיוון ציר ה- x .

נתון כי היויו מתחיל את תנועתו ממנוחה וכי הוא

מתגלגל ללא החלקה (היויו זז בציר ה- x).

כמו כן כל אות בגוף השאלה נתונה.

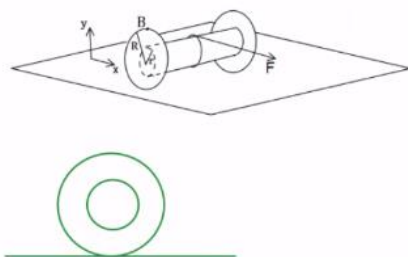
א. מהו מומנט ההתמד של היויו?

ב. מהי תאוצת מרכז המסה של היויו?

ג. מהו מיקום היויו כפונקציה של הזמן?

ד. הנקודה B נמצאת על קצה הגלגל ובדיוק מעל מרכזו ב- $t = 0$.

מצא את מיקום הנקודה כתלות בזמן.

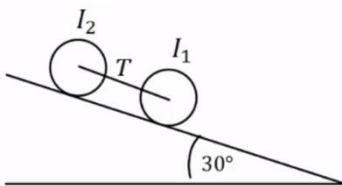


**8) עיפרון נופל***

עיפרון באורך L ניצב אנכית על משטח. ברגע מסוים הוא מתחיל ליפול ימינה. כאשר הזווית בינו לבין האנך למשטח מגיעה ל- θ_1 העיפרון מתחיל להחליק.

א. עבור זוויות θ שבהן עדיין אין החלקה $\theta < \theta_1$.

- i. מצאו את המהירות הזוויתית של העיפרון ω .
 - ii. מצאו את התאוצה הזוויתית של העיפרון α .
 - iii. מצאו את התאוצה הקווית של מרכז המסה של העיפרון.
 - iv. מצאו את גודלו וכיוונו של כוח החיכוך.
 - v. מצאו את הכוח הנורמלי.
- ב. מצאו את מקדם החיכוך הסטטי μ_s .

**9) שני גלילים מחוברים בחוט על מדרון משופע***

שני גלילים בעלי מסה $m = 3\text{kg}$ ורדיוס $R = 20\text{cm}$ כל אחד, מחוברים בחוט אידיאלי ומתגלגלים יחד ללא החלקה במורד מדרון. זווית המדרון היא 30° . התפלגות המסה של הגלילים אינה אחידה ומומנטי ההתמד שלהם סביב מרכז המסה נתונים: $I_1 = 50\text{kg} \cdot \text{cm}^2$, $I_2 = 90\text{kg} \cdot \text{cm}^2$. מהי המתוחות בחוט המחבר בין הגלילים?

תשובות סופיות:

$$t = \sqrt{\frac{4h}{g}} \quad \text{ב.} \quad a = \frac{g}{2} \quad \text{א.} \quad (1)$$

$$a = \frac{(m_1 - m_2)g}{\frac{1}{2}M + m_1 + m_2} \quad (2)$$

(3) ראה סרטון.

$$mgh = mv^2, a = \frac{g}{2}, t = \frac{1}{2} \left(\frac{g}{2} \right) t^2 \quad \text{א.} \quad mgh = \frac{1}{2} mv^2 \quad \text{ב.} \quad \text{ג. נפילה חופשית.} \quad (4)$$

$$h = \frac{2}{5} R \quad (5)$$

$$F \frac{1}{3} (1 + \cos \varphi), \frac{1}{3} F \quad \text{ג.} \quad a = \frac{4F}{3m} \quad \text{ב.} \quad a = \frac{4F}{3m} \quad \text{א.} \quad (6)$$

$$F + \frac{Fr - I \frac{a}{R}}{R} = (m + 2M)(a) \quad \text{ב.} \quad I = 2 \frac{1}{2} MR^2 + \frac{1}{2} mr^2 \quad \text{א.} \quad (7)$$

$$B_x = \frac{1}{2} at^2 + R \sin \left(\frac{1}{2} at^2 \right), B_y = R \cos \left(\frac{1}{2} at^2 \right) \quad \text{ד.} \quad x_{(t)} = \frac{1}{2} at^2 \quad \text{ג.}$$

$$\vec{a} = -\omega^2 r \hat{r} + \alpha r \hat{\theta} \quad \text{iii.} \quad \alpha = \frac{3g}{2L} \sin \theta \quad \text{ii.} \quad \omega = \sqrt{3 \frac{g}{L} (1 - \cos \theta)} \quad \text{i. א.} \quad (8)$$

$$\sum F_y = m(-a_r \cos \theta - a_\theta \sin \theta) \quad \text{v.} \quad \sum F_x = m(-a_r \sin \theta + a_\theta \cos \theta) \quad \text{iv.}$$

$$f_{s, \max}(\theta_1) = \mu_s N(\theta_1) \quad \text{ב.}$$

$$T \approx 0.22N \quad (9)$$

פיזיקה 1 להנדסת אלקטרוניקה ותכנה 3 שעות שבועיות

פרק 15 - כוח גרר וכוח ציפה - לא למדנו

תוכן העניינים

- 176 1. כוח גרר, הסבר ודוגמה עם צנחן
- 177 2. כוח ציפה
- (ללא ספר) 3. כוח סטוקס
- 178 4. סיכום כוח גרר סטוקס וכוח ציפה
- 179 5. תרגילים מסכמים

כוח גרר, הסבר ודוגמה עם צנחן

רקע

כוח גרר הוא כוח מהצורה

$$\vec{F} = -k\vec{v}$$

כאשר \vec{v} היא מהירות הגוף ו- k הוא קבוע כלשהו.

משוואת תנועה - משוואה הכוללת את x , v ו- a . בדרכ מגיעים אליה ממשוואת הכוחות.

מהירות סופית - המהירות הקבועה שהגוף מגיע אליה לאחר זמן רב. (תאוצה שווה לאפס)

כוח סטוקס - כוח גרר שפועל על כדור בתוך נוזל

$$\vec{F}_v = -6\pi\eta R\vec{v}$$

η - צמיגות הנוזל

R - רדיוס הכדור

שאלות



1) הסבר ודוגמה עם צנחן

צנחן קופץ ממטוס ופותח מצנח.

נתון כי כוח החיכוך עם האוויר הוא: $\vec{F} = -k\vec{v}$.

א. מצאו את משוואת התנועה של הצנחן.

ב. מצאו את המהירות הסופית.

ג. מצאו את המהירות כפונקציה של הזמן אם הנפילה התחילה ממנוחה.

תשובות סופיות

$$1) \quad \text{א. } mg - kv_y = ma_y \quad \text{ב. } v_{yfinal} = \frac{mg}{k} \quad \text{ג. } v(t) = \frac{mg}{k} \left(1 - e^{-\frac{k}{m}t} \right)$$

כוח ציפה

רקע

כוח ציפה – כוח הפועל על גוף בנוזל. כיוונו הפוך לכוח הכובד.


$$F_b = \rho_l V g$$

כאשר ρ_l היא צפיפות הנוזל ו- V הוא נפח הגוף.

שאלות

1) שני כדורים קשורים בחוט בתוך המים

שני כדורים בעלי נפח זהה $V = 20 \text{ c.m}^3$ קשורים בחוט זה לזה. מניחים את הכדורים במים ולאחר זמן רב רואים שהמערכת התייצבה כך שכדור 1 נמצא כולו בתוך המים ורק חצי מנפחו של כדור 2 שקע לתוך המים, ראה איור.



המסה של כדור 1 גדולה פי 4 מזו של כדור 2.

א. מהי המסה של כל כדור?

ב. מהי צפיפות המסה של כל כדור?

תשובות סופיות

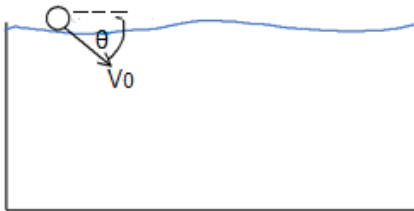
1) א. $m_1 = 24 \text{ gr}$, $m_2 = 6 \text{ gr}$. ב. $\rho_1 = 1.2 \frac{\text{gr}}{\text{c.m}^3}$, $\rho_2 = 0.3 \frac{\text{gr}}{\text{c.m}^3}$

כדור נזרק לבריכה:

שאלות:

1) כדור נזרק לבריכה

כדור נזרק לתוך בריכה עם מהירות התחלתית v_0 בזווית θ עם פני המים. נתונים:



צמיגות המים - η .

רדיוס הכדור - R .

מהירות התחלתית - v_0 .

צפיפות המים - ρ_w .

צפיפות הכדור - ρ_b .

א. רשמו את משוואת התנועה של הכדור.

ב. מצאו את המהירות הסופית של הכדור.

ג. מצאו את העומק המקסימאלי אליו יגיע הכדור אם $\rho_b < \rho_w$.

תשובות סופיות:

$$1) \text{ א. משוואות התנועה הן: } -kv_x = m \frac{dv_x}{dt} \text{ ו- } C - kv_y = m \frac{dv_y}{dt}$$

$$\text{כאשר: } k = 6\pi\eta R, C = (\rho_b - \rho_w)g \frac{4\pi R^3}{3}, m = \rho_b \frac{4\pi R^3}{3}$$

$$\text{ב. } v_y \text{ final} = \frac{C}{k}, v_x \text{ final} = 0$$

$$\text{ג. } y_{\text{max}} = \frac{mC}{k^2} \left[\frac{v_0 k}{C} \sin \theta - \ln \left(\frac{C}{C - kv_0 \sin \theta} \right) \right]$$

תרגילים מסכמים:

שאלות:

(1) כוח גרר עם חיכוך קינטי

- גוף בעל מסה M נע על מישור אופקי במהירות התחלתית v_0 ימינה. בין הגוף והמישור יש חיכוך קינטי ומקדם החיכוך הוא μ . בנוסף פועל על הגוף כוח התנגדות של האוויר $f = -\alpha v$, α קבוע.
- מצאו את משוואת הכוחות על הגוף.
 - מהי מהירות הגוף בכל רגע?
 - מה מיקום הגוף בכל רגע? הנח כי ברגע $t = 0$ מיקום הגוף הוא x_0 .

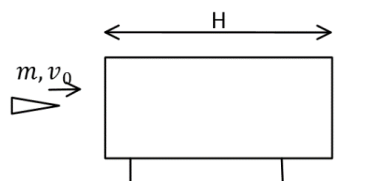
(2) רכבת עוצרת

- רכבת שמסתה 200 טון ומהירותה 30 מ"ש, מתחילה לבלום כאשר כוח עוצר $F = -4000N - 600 \frac{N \cdot s}{m}$ פועל עליה. כעבור איזה מרחק תעצור הרכבת בתנאים האלה?

(3) כוח גרר ריבועי במהירות

- במהירויות גבוהות, גודל כח החיכוך שמפעיל האוויר על כדור הוא: $F_d = kv^2$.
- מצאו את המהירות הסופית של כדור הנופל מגובה רב. זורקים כדור ישר למעלה במהירות התחלתית השווה למהירות הסופית מסעיף א.
 - מהי תאוצת הכדור כאשר מהירותו שווה לחצי ממהירותו ההתחלתית אם הכדור בדרכו למעלה?
 - מהי תאוצת הכדור כאשר מהירותו שווה לחצי ממהירותו ההתחלתית אם הכדור בדרכו למטה?

(4) כוח גרר מתכונתי למהירות בשלישית



- קליע בעל מסה m נורה מלוע רובה ועובר דרך בול עץ בעובי H המקובע במקום. בכניסה לבול העץ מהירות הקליע v_0 וביציאה v_1 . במהלך התנועה בתוך העץ פועל על הקליע כוח מתכונתי למהירות בשלישית $f = -kv^3$ (k) קבוע. נתון כי הקליע חודר לבול העץ במקביל לקרקע וכי ההשפעה של כוח הכובד על תנועת הקליע זניחה.

- א. מצאו את מהירות הקליע כתלות בזמן בתוך בול העץ.
 ב. מהו מיקום הקליע כתלות בזמן בתוך בול העץ?
 ג. מהי מהירות הקליע בתוך הבול לאחר זמן ארוך ביחס ל- $\frac{m}{kv_0}$?
 ד. בטאו את מהירות היציאה כתלות במהירות הכניסה, אורך הבול, מסת הקליע, ומקדם החיכוך.

5 צוללת

- צוללת שמסתה 20 טון שטה בכיוון אופקי במהירות 10 מ"שני.
 ברגע מסוים, הצוללת מכבה את מנועה. מרגע זה פועל על הצוללת כוח עצירה בנתון בביטוי: $\vec{F} = -(\lambda v^2) \hat{v}$, כאשר \hat{v} זה וקטור היחידה בכיוון התנועה.
 זהו הכוח היחידי הפועל על הצוללת. הניחו כי בכיוון האנכי אין תנועה.
 נתון כי 5 דקות לאחר כיבוי המנוע מהירות הצוללת קטנה פי 4.
 א. מהי מהירות הצוללת כפונקציה של זמן?
 ב. חשבו את הקבוע λ .
 ג. מהו המרחק שעברה הצוללת בחמש הדקות מרגע כיבוי המנוע?

6 סירה עם כוח גרר אקספוננציאלי

- סירה שמסתה 50 ק"ג החלה את תנועתה במהירות 5 מ"שני ומואטת על ידי כוח חיכוך הנתון בנוסחה: $\vec{F} = -2e^{0.5v} \hat{v}$. יחידות המידה mks, v מהירות הגוף.
 הניחו שכוח החיכוך הוא הכוח היחיד הפועל על הסירה.
 א. כמה זמן יעבור עד לעצירת הסירה?
 ב. מהי מהירות הגוף בחצי מהזמן הנ"ל?

תשובות סופיות:

$$v(t) = \left(-\mu g + \left(\mu g + \frac{\alpha}{m} v_0 \right) e^{-\frac{\alpha}{m} t} \right) \frac{m}{\alpha} \quad \text{ב.} \quad -\mu m g - \alpha v = m a \quad \text{א.}$$

$$x(t) = \frac{m}{\alpha} \left((-\mu g) t + \left(\mu g + \frac{\alpha}{m} v_0 \right) \left(\frac{1}{-\frac{\alpha}{m}} \right) e^{-\frac{\alpha}{m} t} \right) + C, \quad C = x_0 + \left(\frac{m}{\alpha} \right)^2 \left(\mu g + \frac{\alpha}{m} v_0 \right) \quad \text{ג.}$$

$$x(t) \approx 6.1 \text{ km} \quad \text{1}$$

$$a = \frac{3}{4} g \quad \text{ג.} \quad a = \frac{5}{4} g \quad \text{ב.} \quad v = \sqrt{\frac{mg}{k}} \quad \text{א.} \quad \text{2}$$

$$x(t) = \frac{m}{k} \sqrt{\frac{2k}{m} t + \frac{1}{v_0^2}} - \frac{m}{k v_0} \quad \text{ב.} \quad v(t) = \frac{1}{\sqrt{\frac{2k}{m} t + \frac{1}{v_0^2}}} \quad \text{א.} \quad \text{3}$$

$$v(t) = \frac{1}{\frac{kH}{m} + \frac{1}{v_0}} = v_2 \quad \text{ד.} \quad v(t) \approx \frac{1}{\sqrt{\frac{2kt}{m}}} \quad \text{ג.}$$

$$\Delta x = 1.39 \cdot 10^3 \text{ m} \quad \text{ג.} \quad \lambda = 20 \frac{\text{kg}}{\text{m}} \quad \text{ב.} \quad v(t) = \frac{1}{0.1 + 10^{-3} t} \quad \text{א.} \quad \text{4}$$

$$v \left(t = \frac{45.9}{2} \right) \approx 1.23 \frac{\text{m}}{\text{sec}} \quad \text{ב.} \quad t = 45.9 \text{ sec} \quad \text{א.} \quad \text{5}$$

פיזיקה 1 להנדסת אלקטרוניקה ותכנה 3 שעות שבועיות

פרק 16 - תנועה הרמונית -

תוכן העניינים

182	1. תנועה הרמונית פשוטה.....
187	2. תרגילים מסכמים.....
190	3. תנועה הרמונית מרוסנת.....
194	4. תנועה הרמונית מאולצת.....
197	5. תרגילים לבקשת סטודנטים.....

תנועה הרמונית פשוטה:

רקע:

משוואת התנועה:

$$-k(x - x_0) = m\ddot{x}$$

k ו- m - קבועים חיוביים כלשהם.

x_0 - קבוע שיכול להיות חיובי או שלילי.

x - משתנה כלשהו, יכול להיות גם זווית או כל משתנה אחר.

\ddot{x} - נגזרת שניה של המשתנה.

חייב להיות מינוס לפני k .

פתרון המשוואה:

$$x(t) = A \cos(\omega t + \varphi) + x_0$$

x_0 - נקודת שיווי המשקל, הנקודה שבה: $\sum \vec{F} = 0$.

A - אמפליטודה, המרחק המקסימאלי משווי המשקל.

ω - תדירות זוויתית: $\omega = 2\pi f = \frac{2\pi}{T}$.

φ - פאזה.

מציאת הקבועים בפתרון:

x_0 - אפשר למצוא ישירות מהקבוע שבמשוואה או למצוא אותו מסכום הכוחות שווה לאפס.

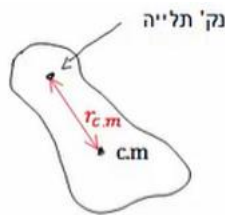
$$\omega = \sqrt{\frac{k}{m}} = \sqrt{\frac{\text{של המקדם } x}{\text{של המקדם } \ddot{x}}}$$

φ, A מוצאים מתנאי התחלה $x(0)$, $\dot{x}(0)$.

נוסחה למהירות המקסימאלית:

$$v_{max} = \omega A$$

מטוטלת פיזיקאלית:



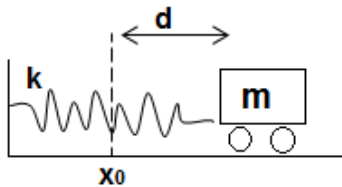
$$\omega = \sqrt{\frac{mgr_{c.m.}}{I_0}}$$

אנרגיה:

$$E = \frac{1}{2}m\dot{x}^2 + \frac{1}{2}k(x - x_0)^2 = \frac{1}{2}m A^2$$

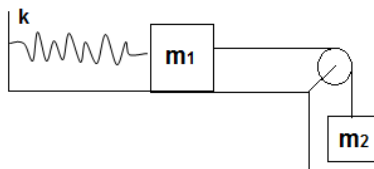
שאלות:

(1) מסה מתנגשת במסה



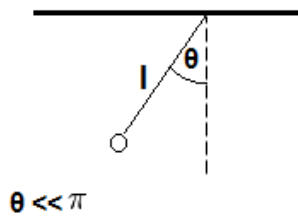
מסה m מונחת על שולחן ללא חיכוך ומחוברת לקפיץ המחובר לקיר בעל קבוע קפיץ k . מותחים את המסה מרחק d מהמיקום בו הקפיץ רפוי ומשחררים ממנוחה. מצאו את $x(t)$ של המסה.

(2) מסה על שולחן מחוברת למסה תלויה



מסה m_1 מונחת על שולחן ללא חיכוך ומחוברת לקפיץ בעל קבוע k . מהמסה יוצא חוט העובר דרך גלגלת אידיאלית וקשור למסה נוספת התלויה באוויר M .

- א. מצאו את נקודת שיווי המשקל של המערכת (קבעו את הראשית בנקודה שבה הקפיץ רפוי).
- ב. מצאו את תדירות התנודה של המערכת.
- ג. מהי האמפליטודה המקסימלית האפשרית לתנועה כך שהמתוחות בחוט לא תתאפס במהלך התנועה?

(3) דוגמה - מטוטלת מתמטית (עם מומנטים)

נתונה מטוטלת (מתמטית) התלויה מהתקרה.

אורך החוט של המטוטלת הוא l .

מצאו את תדירות התנודות הקטנות ואת הזווית כפונקציה של הזמן.

הניחו כי המטוטלת מתחילה את תנועתה ממנוחה בזווית ידועה θ (דרך מומנטים).

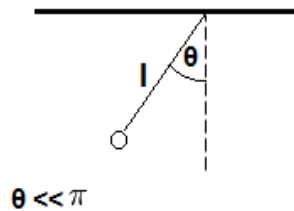
(4) דיסקה עם חור

נתונה דיסקה בעלת מסה M ורדיוס R . קודחים בדיסקה

חור עגול ברדיוס $\frac{R}{4}$ שמרכזו $\frac{R}{2}$ ממרכז הדיסקה. מחברים את

הדיסקה במרכז זה אל קיר כך שהיא יכולה להתנדד סביב

מרכזה. מצאו את תדירות התנודות הקטנות.

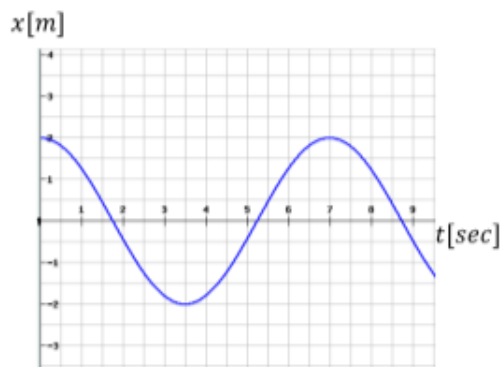
(5) מטוטלת מתמטית (עם אנרגיה)

נתונה מטוטלת (מתמטית) התלויה ו

אורך החוט של המטוטלת הוא l .

מצאו את תדירות התנודות הקטנות כפונקציה של הזמן.

הניחו כי המטוטלת מתחילה את תנ בזווית ידועה θ (דרך אנרגיה).

(6) גרף מיקום זמן

הגרף הבא מתאר את מיקומו כתלות בזמן של גוף הנע בתנועה הרמונית פשוטה.

א. מהי אמפליטודת התנועה?

ב. מהו זמן המחזור?

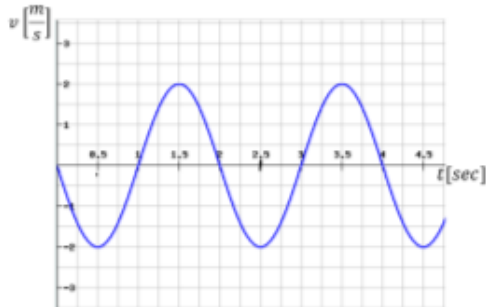
ג. מהי התדירות הזוויתית?

ד. מהי הפאזה?

ה. רשום נוסחה למהירות כתלות בזמן.

(7) גרף מהירות זמן

מהירותו של גוף המתנדנד בתנועה הרמונית נתונה לפי הגרף הבא:



א. מתי מגיע הגוף לנקודת שיווי המשקל

בפעם הראשונה?

ב. האם תאוצת הגוף ב- $t = 1\text{sec}$

מקסימאלית?

ג. האם ב- $t = 1.5\text{sec}$ האנרגיה

קינטית מרבית?

ד. מהו הכוח ב- $t = 2.5\text{sec}$?

ה. כמה מחזורי תנועה עשה הגוף

ב-4 השניות הראשונות של התנועה?

(8) גליל מחובר לקפיץ מתגלגל ללא החלקה

גליל בעל מסה m ורדיוס R נמצא על משטח אופקי

לא חלק ומחובר באמצעות קפיץ אל הקיר.

קבוע הקפיץ הוא k והוא מחובר למרכז הגליל.

הנח שתנועת הגליל אופקית בלבד ושהוא מתגלגל

ללא החלקה על המשטח.

מצאו את תדירות התנודות הקטנות.

פתרו פעם אחת באמצעות אנרגיה ופעם נוספת

באמצעות כוחות ומומנטים.



(9) גלגלת מסה וקפיץ

במערכת הבאה, המסה m_1 קשורה בחוט דרך גלגלת

אל קפיץ המחובר לקרקע. הגלגלת אינה אידיאלית.

נתון: R רדיוס הגלגלת, m_2 מסת הגלגלת, k קבוע הקפיץ.

הניחו כי החוט לא מחליק על הגלגלת.

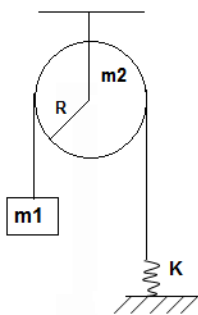
א. מצאו את נקודת שיווי המשקל.

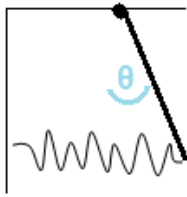
ב. מצאו את תדירות התנודה.

ג. מושכים את המסה אורך d מנקודת שיווי המשקל.

מהו d_{\max} המרחק המקסימלי שניתן למשוך את המסה

מבלי שהמתיחות בחוט תתאפס במהלך התנועה?





10 מוט תלוי מחובר עם קפיץ לקיר

מוט בעל אורך L ומסה M (התפלגות אחידה) תלוי מהתקרה וחופשי להסתובב סביב נקודת התלייה. קצהו השני של המוט מחובר בקפיץ, בעל קבוע k לקיר. הקפיץ רפוי כאשר המוט נמצא מאונך לתקרה.

א. הראו כי תנועת המוט בזוויות קטנות היא תנועה הרמונית ומצאו את תדירות התנועה.

ב. מצאו את הזווית של המוט כפונקציה של הזמן אם המוט משוחרר ממנוחה בזווית נתונה θ_0 .

תשובות סופיות:

$$x(t) = -\frac{v_0}{2} \sqrt{\frac{2m}{k}} \cos\left(\sqrt{\frac{k}{2m}}t + \frac{\pi}{2}\right) + x_0 \quad (1)$$

$$A_{\max} = \frac{g}{\omega^2} \quad \text{ג.} \quad \omega = \sqrt{\frac{k}{m_1 + m_2}} \quad \text{ב.} \quad x = \frac{m_2 g}{k} \quad \text{א.} \quad (2)$$

$$\theta(t) = \theta_0 \cos(\omega t), \quad \omega = \sqrt{\frac{g}{l}} \quad (3)$$

$$\sqrt{\frac{16g}{247R}} \quad (4)$$

$$\theta(t) = \theta_0 \cos(\omega t), \quad \omega = \sqrt{\frac{g}{l}} \quad (5)$$

$$\varphi = 0 \quad \text{ד.} \quad \omega \approx 0.898 \frac{\text{rad}}{\text{sec}} \quad \text{ג.} \quad T = 7 \text{ sec} \quad \text{ב.} \quad A = 2 \text{ m} \quad \text{א.} \quad (6)$$

$$v(t) = -1.80 \cdot \sin(0.898 \cdot t + 0) \quad \text{ה.}$$

$$0 \quad \text{ד.} \quad \text{ג. כן.} \quad \text{ב. כן.} \quad t = 0.5 \text{ sec} \quad \text{א.} \quad (7)$$

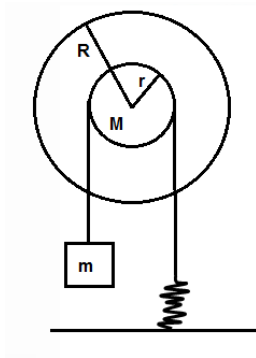
$$\omega_0 = \sqrt{\frac{2k}{3m}} \quad (8)$$

$$d_{\max} = \frac{m_1 g}{k} \quad \text{ג.} \quad \omega = \sqrt{\frac{k}{m_1 + \frac{1}{2}m_2}} \quad \text{ב.} \quad x_0 = \frac{m_1 g}{k} \quad \text{א.} \quad (9)$$

$$\theta(t) = \theta_0 \cos(\omega t) \quad \text{ב.} \quad \omega = \sqrt{\frac{3(mg + 2kL)}{2mL}} \quad \text{א.} \quad (10)$$

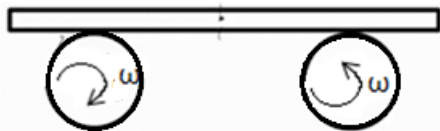
תרגילים מסכמים:

שאלות:



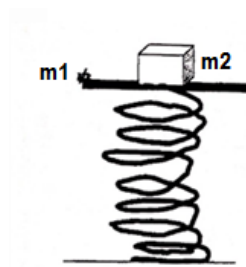
(1) דיסקה כפולה מסה וקפיץ

- נתונה דיסקה ממוסמרת במרכזה לקיר (כלומר הדיסקה יכולה להסתובב אך לא לנוע מעלה ומטה).
 הדיסקה בנויה משתי דיסקות מודבקות בעלות רדיוס r לדיסקה הקטנה ו- R לדיסקה הגדולה.
 סביב הדיסקות מלופפים חוטים כמתואר בשרטוט.
 עוד נתון כי אין החלקה לחוטים.
 א. מצאו את תדירות התנודות.
 ב. מהי האנרגיה הכוללת של המערכת?



(2) מוט על שני גלגלים

- מוט בעל מסה M מונח על שני גלגלים המקובעים במרכזם.
 הגלגלים מסתובבים במהירות זוויתית ω כך שהגלגל הימני מסתובב נגד כיוון השעון והשמאלי עם כיוון השעון.
 בין המוט והגלגלים קיים חיכוך ומקדם החיכוך הקינטי נתון.
 מניחים את המוט כך שמרכזו נמצא במרחק A מהמרכז בין הגלגלים.
 מצא את תדירות התנודה של המוט.



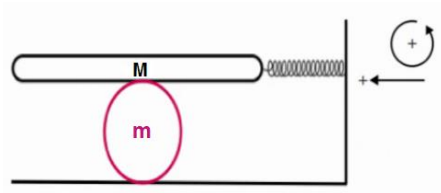
(3) מסה על משטח על קפיץ אנכי

- על קפיץ שקבועו k מונח משטח שמסתו m_1 , המשטח צמוד לקצהו של הקפיץ.
 על המשטח מונח גוף שמסתו m_2 .
 מכווצים את הקפיץ בשיעור Δy ומשחררים.
 א. מה צריך להיות Δy_{\min} כדי שהגוף יתנתק מן המשטח באיזה שהוא שלב?

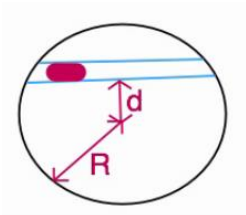
ב. הניחו: $\Delta y = 2\Delta y_{\min}$, $k = 10 \frac{Nr}{m}$, $m_1 = 0.04 \text{ kg}$, $m_2 = 0.06 \text{ kg}$

ומצאו את רגע הניתוק.

- ג. באמצעות הנתונים המספריים מסעיף ב', מהו מקומו ומהירותו של המשטח ברגע שהגוף ניתק מן המשטח?



(4) משטח על דיסקה מחובר לקפיץ נתונה מערכת כבשרטוט (אין החלקה במערכת). מהי התדירות?



(5) תנודה בתעלה בכדור"א בתוך כדור הארץ נחפרה תעלה כבשרטוט. מסת כדור הארץ M. מהי תדירות התנודות הקטנות של מסה החופשיה לנוע בתעלה?

(6) שתי מסות מחוברות בקפיץ**

שתי מסות m_1 ו- m_2 מחוברות בקפיץ בעל קבוע k ואורך רפוי l . המסות נמצאות במנוחה על מישור אופקי חלק. נותנים דחיפה ימינה למסה m_1 המקנה לה מהירות התחלתית v_0 .
 א. מהי תדירות התנודות של התנועה (כתלות בנתוני הבעיה)?
 רמז: על מנת לפתור את המשוואות יש להחליף משתנים
 ל-

$$x_{c.m.} = \frac{m_1 x_1 + m_2 x_2}{m_1 + m_2}; \quad x_{rel} = x_1 - x_2$$

ב. מצאו את מיקום המסה m_2 כתלות בזמן.

תשובות סופיות:

$$E_{\text{total}} = \frac{1}{2} Kx^2 - mgx + \frac{1}{2} I\omega^2 + \frac{1}{2} m\dot{x}^2 \quad \text{ב.} \quad \sqrt{\frac{2kR}{\frac{1}{2}MR + \frac{r^2}{R}}} \quad \text{א.} \quad (1)$$

$$\omega = \sqrt{\frac{\mu_k g}{d}} \quad (2)$$

$$t_1 = \frac{1}{\omega} \cos^{-1}\left(-\frac{1}{2}\right) \quad \text{ב.} \quad \Delta y_{\min} = \frac{(m_1 + m_2)}{k} \quad \text{א.} \quad (3)$$

$$v(t) = \dot{y}(t) = -2\Delta y_{\min} \omega \sin(\omega t), \quad \Delta y_{\min} = \frac{(m_1 + m_2)}{k} \quad \text{ג.}$$

$$\ddot{x} = -\left(\frac{K}{m + 2M}\right)x \quad (4)$$

$$\ddot{x} = -\left(\frac{M}{R^3}\right)(x - 0) \quad (5)$$

$$\omega = \sqrt{\frac{k}{\mu}}, \quad \mu = \frac{m_1 m_2}{m_1 + m_2} \quad \text{א.} \quad (6)$$

$$, A = \frac{\sqrt{v_0^2 + l^2 \omega^2}}{\omega}, \quad x_2(t) = \frac{m_1}{m_1 + m} (l + v_0 t) - \frac{m_1}{m_1 + m_2} A \cos(\omega t + \varphi) \quad \text{ב.}$$

$$\tan \varphi = -\frac{v_0}{\omega l}$$

תנועה הרמונית מרוסנת:

רקע:

משוואת התנועה:

$$\ddot{z} + \Gamma \dot{z} + \omega_0^2 z = 0$$

$$\Gamma = \frac{\lambda}{m}, \quad \omega_0^2 = \frac{k}{m}$$

פתרון המשוואה מתחלק לשלושה מקרים:

$$(I). \text{ ריסון חזק: } \frac{\Gamma}{2} > \omega_0$$

$$z(t) = e^{-\frac{\Gamma}{2}t} \left(A e^{\sqrt{\left(\frac{\Gamma}{2}\right)^2 - \omega_0^2} t} + B e^{-\sqrt{\left(\frac{\Gamma}{2}\right)^2 - \omega_0^2} t} \right)$$



אין תנודות.

$$(II). \text{ ריסון קריטי: } \frac{\Gamma}{2} = \omega_0$$

$$z(t) = (A + B \cdot t) \cdot e^{-\omega_0 t}$$

דעיכה הכי מהירה לשיווי משקל עם תנודה אחת.

(III). ריסון חלש: $\frac{\Gamma}{2} < \omega_0$

$$z(t) = Ae^{-\frac{\Gamma}{2}t} \cos(\tilde{\omega}t + \varphi)$$


$$\tilde{\omega} = \sqrt{\omega_0^2 - \left(\frac{\Gamma}{2}\right)^2}$$



יש תנודות דועכות, $\tilde{\omega}$ היא תדירות התנודות.

שאלות:

(1) כדור במיכל מים



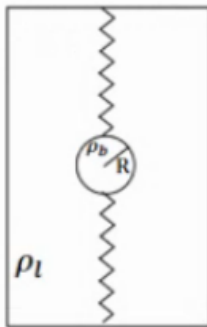
כדור בעל מסה m ורדיוס R נמצא בתוך מיכל מים ומחובר באמצעות קפיץ אופקי לדופן המיכל. קבוע הקפיץ הוא k . בתנועת הגוף במים, מפעילים המים על הכדור כוח התנגדות המתכונתי והפוך למהירותו. כוח זה נקרא כוח סטוקס וגודלו

הוא: $\vec{F} = -6\pi R\eta\vec{v}$. כאשר η היא צמיגות המים ו- R הוא רדיוס הכדור.

התייחס ל- m , k , η , R כנתונים ומצא את תדירות התנודות של הכדור

בהנחה ש- $R < \frac{\sqrt{mk}}{3\pi\eta}$. הזנח את החיכוך בין הכדור לתחתית המיכל.

(2) שני קפיצים בנוזל



כדור נמצא בתוך תיבה מלאה במים ומחובר עם קפיץ אידיאלי לקצה העליון של התיבה ועם קפיץ אידיאלי נוסף זהה לקצה התחתון של התיבה.

נתון: R - רדיוס הכדור, ρ_b - צפיפות המסה של הכדור,

ρ_l - צפיפות המסה של המים, K - קבוע שני הקפיצים

ו- η - צמיגות המים.

(תזכורת: כאשר כדור נמצא בתוך נוזל פועלים עליו

כוח ציפה: $F = \rho_l V g$ וכוח סטוקס: $F = -6\pi\eta R v$).

א. מצא את נקודת שיווי המשקל של המערכת.

ב. מה התנאי שיהיו תנודות הרמוניות?

מצא את התדירות בהנחה שתנודות אלו מתקיימות.

ג. מצא את התנאי בו יחזור הכדור הכי מהר לנקודת שיווי המשקל.

(3) איבוד אנרגיה במחזור

בתנועה הרמונית מרוסנת קיים ריסון חלש כך שהאמפליטודה של התנועה

יורדת ב-2.5 אחוז כל מחזור.

בכמה אחוז יורדת האנרגיה בכל מחזור?

(4) משקולת במיכל מים תלויה מהתקרה

משקולת שמסתה: $M = 1\text{kg}$ נמצאת במיכל מים ומחוברת לתקרה באמצעות קפיץ בעל קבוע: $k = 20 \frac{\text{N}}{\text{m}}$. כוח ההתנגדות שמפעילים המים הוא מהצורה של: $\vec{F} = -\lambda \vec{v}$ כאשר: $\lambda = 4 \frac{\text{kg}}{\text{sec}}$ ו- \vec{v} היא מהירות המסה. הניחו שהמשקולת אינה יוצאת מהמים ואינה פוגעת ברצפה.

א. תוך כמה זמן תרד האמפליטודה לחמישית מגודלה ההתחלתי? (הניחו שהפאזה היא אפס)

ב. לאחר כמה מחזורים זה יקרה?

(5) מסה באמבט מים ודבש

מסה: $m = 1\text{kg}$ נמצאת באמבט מלא מים, המסה מחוברת באמצעות שני קפיצים זהים בעלי קבוע: $k = 25 \frac{\text{N}}{\text{m}}$ לשתי דפנות האמבט ונעה ללא חיכוך עם ריצפת האמבט. מזיזים את המסה 0.5m מנקודת שיווי המשקל ומשחררים ממנוחה. התנגדות המים מפעילה כוח גרר: $\vec{F} = -\lambda \vec{v}$ כאשר: $\lambda = 10 \frac{\text{kg}}{\text{sec}}$.

א. מהו העתק המסה כתלות בזמן?

ב. מחליפים את המים בדבש מה שמגדיל את λ פי $\sqrt{2}$. מזיזים שוב את המסה 0.5m ומשחררים, מהו העתק המסה כתלות בזמן?

תשובות סופיות:

$$\tilde{\omega} = \sqrt{\frac{k}{m} - \left(\frac{3\pi R \eta}{m}\right)^2} \quad (1)$$

$$y_{eq} = \frac{F_b}{2K} \quad (2) \quad \text{א.} \quad \omega^* = \sqrt{\frac{2K}{m} - \left(\frac{6\pi\eta R}{2m}\right)^2} \quad \text{ב.} \quad \frac{2K}{m} = \frac{6\pi\eta R^2}{2m} \quad \text{ג.}$$

$$5\% \quad (3)$$

$$1.6\text{sec} \quad \text{א.} \quad \text{ב. בערך מחזור אחד.} \quad (4)$$

$$x(t) = \left(\frac{1}{2} + \frac{5}{\sqrt{2}}t\right) e^{-5\sqrt{2}t} \quad \text{ב.} \quad x(t) = \frac{1}{\sqrt{2}} e^{-5t} \cos\left(5t + \frac{\pi}{4}\right) \quad \text{א.} \quad (5)$$

תנועה הרמונית מאולצת:

רקע:

כוח מאלץ:

$$\vec{F}(t) = F_0 \sin(\Omega t)$$

משוואת התנועה:

$$\ddot{z} + \Gamma \dot{z} + \omega_0^2 z = \frac{F_0}{m} \sin(\Omega t)$$

פתרון משוואת התנועה:

$$x(t) = A(\Omega) \sin(\Omega t + \phi) + x_{\text{הומוגני}}(t)$$

$x_{\text{הומוגני}}(t)$ - הוא הפתרון של תנועה הרמונית מרוסנת שמתחלק לשלושת המקרים במצב עמיד נזיח את הפתרון ההומוגני.

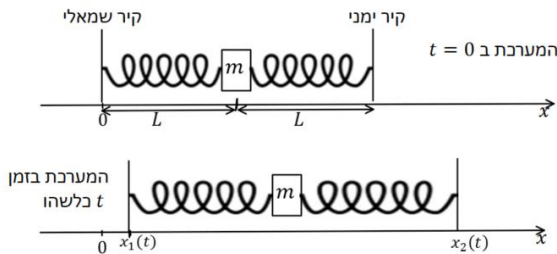
$$A(\Omega) = \frac{\frac{F_0}{m}}{\sqrt{(\omega_0^2 - \Omega^2)^2 + \Gamma^2 \Omega^2}}$$

$$\sin(\phi) = \frac{\Gamma \Omega}{\sqrt{(\omega_0^2 - \Omega^2)^2 + \Gamma^2 \Omega^2}}$$

תדירות תהודה - התדירות של הכוח המאלץ עבורה $A(\Omega)$ מקסימאלי.

שאלות:

(1) מסה בין קירות זזים



מסה m מחוברת לשני קפיצים זהים בעלי קבוע k ואורך רפוי L משני צידיה. הקפיצים מחוברים לקירות הנמצאים במרחק L מהמסה משמאלה ומימינה והמערכת כולה מונחת על שולחן חלק (כוח הכובד לתוך הדף).

על המסה פועל כוח גרר: $F = -bv$. ב- $t=0$ הקירות מתחילים לזוז ראשית הצירים ממוקמת במרכז התנועה של הקיר השמאלי והכיוון החיובי ימינה.

מיקום הקירות כתלות בזמן הוא: $x_1(t) = d \sin(\omega t)$, $x_2(t) = 2L + 2d \sin(\omega t)$.

נתונים: $d \ll L$ ו- d, L, ω, k, b, m .

א. מהי תדירות התנועה ומהי האמפליטודה?

ב. מה התנאי לתהודה בהנחה כי הריסון חלש מאוד?

(2) מציאת תדירות ברבע אמפליטודה

מסה m מחוברת לקפיץ אופקי בעל קבוע k , המסה נעה על מישור חלק ללא חיכוך. על המסה פועל כוח גרר: $f = -bv$ וכוח מאלץ: $F(t) = d \cdot \cos(\omega t)$.

מצא את תדירות הכוח בה אמפליטודת התנועה במצב העמיד תהיה רבע מהאמפליטודה המקסימלית.

הנח כי: ω, b, k, m, d נתונים וכי: $b \ll \sqrt{mk}$.

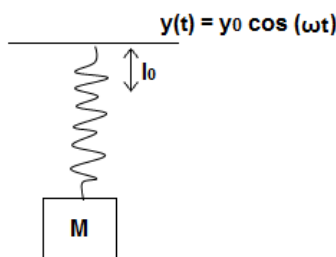
(3) מסה תלויה על קרש נע

מסה M מחוברת באמצעות קפיץ אנכי לקרש אופקי הנע בציר ה- y

לפי: $y(t) = y_0 \cos(\omega t)$.

קבוע הקפיץ k ואורכו הרפוי l_0 נתונים.

מצא את מיקום המסה כפונקציה של הזמן.



תשובות סופיות:

$$\omega \sim \sqrt{\frac{2k}{m}} \quad \text{ב.} \quad A(\omega) = \frac{\frac{3kd}{m}}{\sqrt{\left(\frac{2k}{m} - \omega^2\right)^2 + \left(\frac{b}{m}\right)^2 \omega^2}} \quad \text{א. (1)}$$

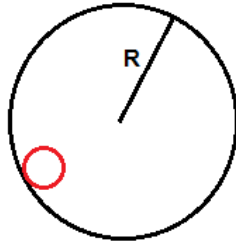
$$\omega_{1,2} = \sqrt{\frac{B \pm \sqrt{B^2 - 4C}}{2}} \quad \text{(2)}$$

$$y(t) = \frac{\frac{F_0}{m}}{\frac{k}{m} - \omega^2} \cos \omega t + y'_0 \quad \text{(3)}$$

תרגילים לבקשת סטודנטים:

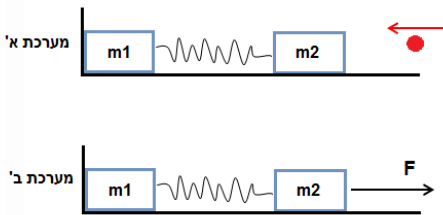
שאלות:

1) כדור מתגלגל בצינור



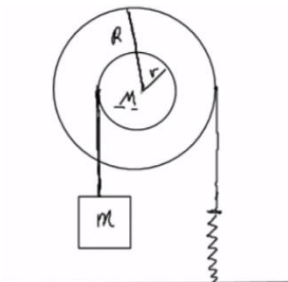
- דיסקה בעלת רדיוס r מתגלגלת בתוך צינור מקובע לרצפה בעל רדיוס R . מותר להשתמש בקירוב זוויות קטנות ומותר להזניח את הרדיוס הקטן ביחד לגדול.
- מה תהיה תדירות התנודות הקטנות של הדיסקה, בהנחה שאין חיכוך?
 - מה תהיה התשובה לסעיף א' אם יוסיפו חיכוך עם הרצפה והגלגול יהיה ללא החלקה?
 - מה תהיה התדירות עם בנוסף לחיכוך עם הרצפה יתווסף כוח חיכוך: $F = -bv$?

2) קפיץ נמתח להתארכות מקסימלית



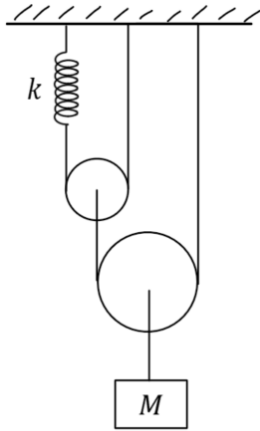
- קליע בעל מסה זניחה נע במהירות לא ידועה לעבר מסה m_2 שמחוברת למסה m_1 דרך קפיץ בעל מקדם אלסטי k .
- המסה m_1 ניצבת בצמוד לקיר כמתואר בשרטוט.
- לאחר פגיעת הקליע הקפיץ מתכווץ במצב המקסימלי ומאבד d מאורכו.
 - מהי מהירות מרכז המסה מייד לאחר שהמערכת מתנתקת מהקיר?
 - על מערכת בעלת נתונים זהים ואורך קפיץ רפוי l מופעל כוח קבוע ואופקי F לכיוון המסומן בציור.
- מה ההתארכות המקסימלית של הקפיץ?

3) דיסקה כפולה מסה וקפיץ



- נתונה דיסקה ממוסמרת במרכזה לקיר (כלומר הדיסקה יכולה להסתובב אך לא לנוע מעלה ומטה).
- הדיסקה בנויה משתי דיסקיות מודבקות בעלות רדיוס r לדיסקה הקטנה ו- R לדיסקה הגדולה.
- סביב הדיסקות מלופפים חוטים כמתואר בשרטוט. עוד נתון כי אין החלקה לחוטים.
- מצא את תדירות התנודות.
 - מהי האנרגיה הכוללת של המערכת?

4) הרמונית עם גזירה של חוט (רק למי שמכיר את הנושא של תאוצות לא שוות) במערכת הבאה הגלגלות והקפיץ אידיאליים.



קבוע הקפיץ הוא: $k = 50 \frac{\text{N}}{\text{m}}$ והמסה: $M = 4\text{kg}$.

- מצאו את התארכות הקפיץ במצב שיווי המשקל.
- מה ההעתק של המשקולת במצב שיווי המשקל (ביחס למצבה כשהקפיץ רפוי).
- מהי תדירות התנודות של המערכת?
- מותחים את המשקולת מטה 20cm מנקודת שיווי המשקל ומשחררים ממנוחה. רשמו ביטוי למיקום של המשקולת כתלות בזמן.

תשובות סופיות:

$$\omega' = \sqrt{\omega_0^2 \cdot \left(\frac{b}{2}\right)^2} \quad \text{ג.} \quad \omega = \sqrt{\frac{2g}{3R}} \quad \text{ב.} \quad \omega = \sqrt{\frac{g}{R}} \quad \text{א.} \quad (1)$$

$$\Delta = \frac{F}{2k + k \frac{m_2 - m_1}{m_1}} \quad \text{ב.} \quad v_{\text{c.m.}} = \sqrt{\frac{k}{m_2} d} \quad \text{א.} \quad (2)$$

$$E_{\text{total}} = \frac{1}{2} kx^2 - mgx + \frac{1}{2} I\omega^2 + \frac{1}{2} mx^2 \quad \text{ב.} \quad \omega = \sqrt{\frac{kR}{\frac{1}{2}MR + \frac{r^2}{R}}} \quad \text{א.} \quad (3)$$

$$3.54 \frac{\text{rad}}{\text{sec}} \quad \text{ג.} \quad 0.05\text{m} \quad \text{ב.} \quad 0.2\text{m} \quad \text{א.} \quad (4)$$

ד. $x(t) = 0.2 \cos(3.54t)$ משיווי משקל.

פיזיקה 1 להנדסת אלקטרוניקה ותכנה 3 שעות שבועיות

פרק 17 - תרגילים נוספים לתנועה הרמונית פשוטה

תוכן העניינים

1. תרגילים נוספים 199

תרגילים נוספים:

שאלות:

(1) תרגיל 1

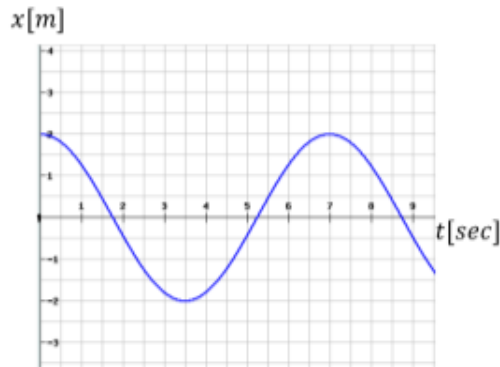
גוף בעל מסה $m = 20\text{gr}$ מחובר לקפיץ אופקי בעל קבוע $k = 4 \frac{\text{N}}{\text{m}}$, וחופשי לנוע ללא חיכוך. הגוף מתנדנד בתנועה הרמונית כך שהמרחק בין הקצוות של התנועה הוא: $d = 10\text{cm}$.

- א. מהי האפליטודה של התנועה?
- ב. מהי התדירות הזוויתית?
- ג. מהו זמן המחזור?
- ד. רשום נוסחה למיקום הגוף כתלות בזמן, אם הזמן נמדד מהרגע בו הגוף היה בקצה החיובי.
- ה. רשום נוסחה למהירות הגוף כתלות בזמן.

(2) תרגיל 2

גוף בעל מסה $m = 2\text{kg}$ מחובר לקפיץ אופקי בעל קבוע $k = 4 \frac{\text{N}}{\text{m}}$, וחופשי לנוע ללא חיכוך. מושכים את הגוף מנקודת שיווי המשקל למרחק של $d = 0.2\text{m}$ ומשחררים ממנוחה.

- א. מהי התדירות הזוויתית?
- ב. מהו זמן המחזור?
- ג. מהי האפליטודה של התנועה?
- ד. מהו מיקום הגוף כתלות בזמן מרגע השחרור?
- ה. רשום נוסחה למהירות הגוף כתלות בזמן.
- ו. חזור על כל הסעיפים עבור המקרה בו ברגע השחרור הגוף מקבל דחיפה קטנה המקנה לו מהירות התחלתית $v_0 = 0.1 \frac{\text{m}}{\text{sec}}$.



3 תרגיל (3)

הגרף הבא מתאר את מיקומו כתלות בזמן של גוף הנע בתנועה הרמונית פשוטה.

- א. מהי אמפליטודת התנועה?
- ב. מהו זמן המחזור?
- ג. מהי התדירות הזוויתית?
- ד. מהי הפאזה?
- ה. רשום נוסחה למהירות כתלות בזמן.

4 תרגיל (4)

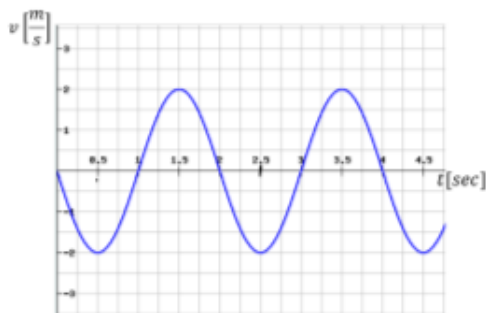
גוף בעל מסה $m = 1\text{kg}$ מחובר לקפיץ אופקי בעל קבוע קפיץ $k = 3 \frac{\text{N}}{\text{m}}$.

הגוף משוחרר ממנוחה במרחק $d = 0.3\text{m}$ מנקודת שיווי המשקל.

- א. רשום נוסחה למיקום הגוף כתלות בזמן.
- ב. מצא את מיקום הגוף ב- $t = 3\text{sec}$.
- ג. מהי מהירות הגוף ב- $t = 3\text{sec}$.
- ד. מהי תאוצת הגוף ב- $t = 3\text{sec}$.

5 תרגיל (5)

מהירותו של גוף המתנדנד בתנועה הרמונית נתונה לפי הגרף הבא:



א. מתי מגיע הגוף לנקודת שיווי המשקל

בפעם הראשונה?

ב. האם תאוצת הגוף ב- $t = 1\text{sec}$

מקסימאלית?

ג. האם ב- $t = 1.5\text{sec}$ האנרגיה

קינטית מרבית?

ד. מהו הכוח ב- $t = 2.5\text{sec}$?

ה. כמה מחזורי תנועה עשה הגוף

ב-4 השניות הראשונות של התנועה?

6 תרגיל (6)

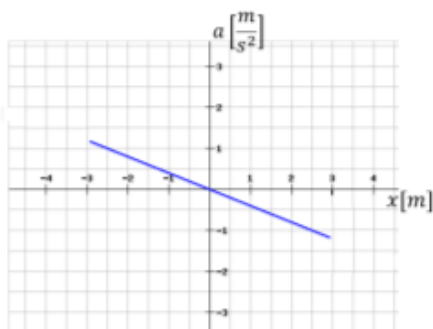
בגרף הבא נתונה התאוצה של גוף כתלות

במיקום של הגוף. מסת הגוף היא $m = 20\text{g}$.

א. האם התנועה היא תנועה הרמונית? נמק.

ב. מהו קבוע הקפיץ?

ג. מהי אמפליטודת התנועה?



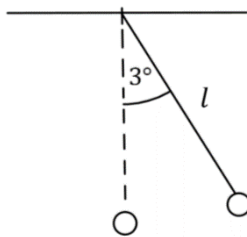
7 תרגיל (7)

גוף בעל מסה $m = 2\text{kg}$ מחובר לקפיץ אופקי בעל קבוע קפיץ $k = 40 \frac{\text{N}}{\text{m}}$.

ב- $t = 0$ מיקום ומהירות הגוף הם: $x = 20\text{cm}$, $v = 0.4 \frac{\text{m}}{\text{sec}}$.

- רשום נוסחה למיקום הגוף כתלות בזמן.
- מתי מיקומו של הגוף הוא 5 ס"מ משמאל לנקודת שיווי המשקל בפעם הראשונה?
- מתי מהירות הגוף היא $0.1 \frac{\text{m}}{\text{sec}}$ בכיוון החיובי?
- מהי התאוצה המקסימאלית של הגוף?

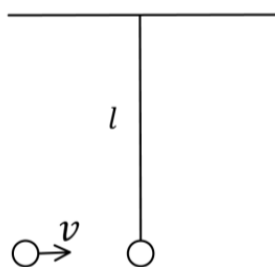
8 תרגיל (8)



מטוטלת מתמטית בעלת חוט באורך $l = 1\text{m}$, ומסה $m = 100\text{gr}$ בקצה, משוחררת ממנוחה מזווית של 3° .

- מה תהיה התדירות הזוויתית של התנועה?
- כמה זמן ייקח למטוטלת להגיע לנקודת שיווי המשקל?
- מהי מהירות המסה בנקודת שיווי המשקל?
- בנקודת שיווי המשקל מונחת מסה נוספת $m = 25\text{gr}$, הנמצאת במנוחה. מסת המטוטלת מתנגשת במסה הנוספת התנגשות פלסטית.
- מתי מהירות הגופים מיד לאחר ההתנגשות?
- מהי התדירות הזוויתית של התנועה לאחר ההתנגשות?
- מהי הזווית המקסימאלית אליה תגיע המטוטלת לאחר ההתנגשות?

9 תרגיל (9)



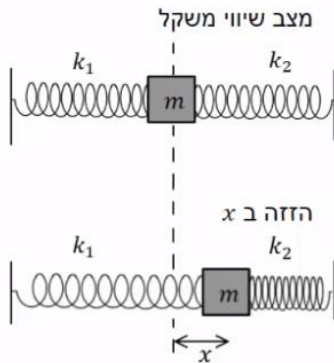
מטוטלת מתמטית בעלת חוט באורך $l = 0.5\text{m}$, ומסה $m = 50\text{gr}$ בקצה, תלויה במנוחה.

מסה $m = 25\text{gr}$ נעה אופקית במהירות $v = 0.6 \frac{\text{m}}{\text{sec}}$,

ומתנגשת במסת המטוטלת התנגשות פלסטית.

- מה תהיה התדירות הזוויתית של התנועה לאחר ההתנגשות, בהנחה שהתנדודות קטנות.
- כמה זמן ייקח למטוטלת להגיע לשיא הגובה?
- מהי מהירות הגופים מיד לאחר ההתנגשות?
- מהי הזווית המקסימאלית אליה תגיע המטוטלת?

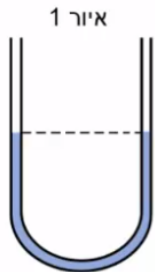
(10) מסה עם קפיצים משני הצדדים



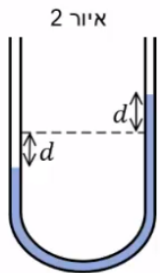
לשני צדדיה של מסה m מחוברים שני קפיצים שקבועי הכוח שלהם הם: k_1 ו- k_2 . הגוף נמצא על משטח חלק. מזיזים את הגוף ימינה מרחק x .

- א. הראה כי כאשר מרפים ממנו הוא ינוע בתנועה הרמונית פשוטה שקבועה הוא: $k_1 + k_2$.
- ב. מהו זמן המחזור של התנועה?

(11) צינור בצורת U



בתוך צינור גלילי בצורת האות U מצוי נוזל בשיווי משקל (איור 1). אורך החלק המלא בנוזל הוא L ושטח החתך לאורך כל הצינור הוא A . צפיפות הנוזל (מסה ליחידת נפח) היא ρ . נושפים בזרוע השמאלית של הצינור כך שפני הנוזל יורדים בשיעור d , ומרפים (איור 2).

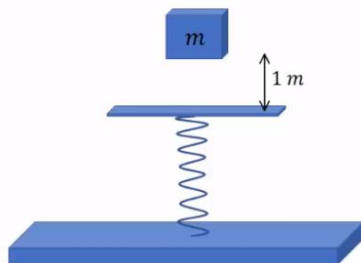


- א. תאר במילים את תנועת הנוזל בהנחה שלא פועלים עליו כוחות חיכוך.
- ב. הראה כי כאשר פני הנוזל נמצאים במרחק x ממצב שיווי המשקל פועל על הנוזל כוח מחזיר: $F = -2\rho Agx$. (הדרכה: חשב את מסת הנוזל העודפת בצד הגבוה ומשם את כוח הכובד שהיא מפעילה על שאר הנוזל).
- ג. בהנחה כי $x \ll L$ הראה כי זמן המחזור של התנועה

$$T = \pi \sqrt{\frac{2L}{g}}$$

הוא:

(12) מסה נופלת על קפיץ אנכי



קפיץ אנכי מחובר לקרקע מצידו האחד וללוח אופקי בצידו השני.

קבוע הקפיץ הוא: $400 \frac{N}{m}$. מסה של $m = 2 \text{ kg}$

משוחררת ממנוחה מגובה של מטר אחד מעל הלוח, המסה נופלת נפילה חופשית ונדבקת ללוח. מסת הלוח והקפיץ ניתנות להזנחה.

- א. מהי ההתכווצות המרבית של הקפיץ?
- ב. מהי תדירות תנודות המשקולת?
- ג. מהי משרעת התנודות?

תשובות סופיות:

- (1) א. $A = 0.05\text{m}$ ב. $\omega \approx 14.14 \frac{\text{rad}}{\text{sec}}$ ג. $T \approx 0.444\text{sec}$
 ד. $x(t) = 0.05 \cdot \cos(14.14 \cdot t)$ ה. $v(t) = -0.707 \cdot \sin(14.14 \cdot t)$
- (2) א. $\omega = 1.41 \frac{\text{rad}}{\text{sec}}$ ב. $T \approx 4.44\text{sec}$ ג. $A = 0.2\text{m}$
 ד. $x(t) = 0.2 \cdot \cos(1.41 \cdot t)$ ה. $v(t) = -0.282 \cdot \sin(1.41 \cdot t)$
 ו. $x(t) = 0.212 \cdot \cos(1.41 \cdot t + 0.341)$, $T = 4.44\text{sec}$, $A = 0.212\text{m}$, $\omega = 1.41 \frac{\text{rad}}{\text{sec}}$
 ז. $v(t) = -0.299 \sin(1.41 \cdot t + 0.341)$
- (3) א. $A = 2\text{m}$ ב. $T = 7\text{sec}$ ג. $\omega \approx 0.898 \frac{\text{rad}}{\text{sec}}$ ד. $\varphi = 0$
 ה. $v(t) = -1.80 \cdot \sin(0.898 \cdot t + 0)$
- (4) א. $x(t) = 0.3 \cos(\sqrt{3} \cdot t)$ ב. $x(t=3) \approx 0.14\text{m}$
 ג. $v(t=3) \approx -0.46 \frac{\text{m}}{\text{sec}}$ ד. $a(t=3) = -0.42 \frac{\text{m}}{\text{sec}^2}$
- (5) א. $t = 0.5\text{sec}$ ב. כן. ג. כן. ד. 0
 ה. 2
- (6) א. כן. ב. $k = 0.008 \frac{\text{N}}{\text{m}}$ ג. $A \approx 3\text{m}$
- (7) א. $x(t) = 0.22 \cos(\sqrt{20} \cdot t - 0.42)$ ב. $t_1 = 0.5\text{sec}$ ג. $t_1 \approx 0.07\text{sec}$
- (8) א. $\omega = \sqrt{10} \frac{\text{rad}}{\text{sec}}$ ב. $t \approx 0.5\text{sec}$ ג. $v_{\max} = 0.165$ ד. $u = 0.131 \frac{\text{m}}{\text{sec}}$
 ה. $\omega = \sqrt{10} \frac{\text{rad}}{\text{sec}}$ ו. $\theta \approx 2.35^\circ$
 ז. $a_{\max} = 4.4 \frac{\text{m}}{\text{sec}^2}$
- (9) א. $\omega = \sqrt{20} \frac{\text{rad}}{\text{sec}}$ ב. $t \approx 0.35\text{sec}$ ג. $u = 0.2 \frac{\text{m}}{\text{sec}}$ ד. $\theta = 5.12^\circ$
- (10) א. הוכחה. ב. $T = 2\pi \sqrt{\frac{\text{m}}{k_1 + k_2}}$
- (11) א. ראה סרטון. ב. הוכחה. ג. הוכחה.
- (12) א. $\Delta x_{\max} = 0.37\text{m}$ ב. $f = 2.25 \frac{1}{\text{sec}}$ ג. $A \approx 0.32\text{m}$

פיזיקה 1 להנדסת אלקטרוניקה ותכנה 3 שעות שבועיות

פרק 18 - שיעורים מוקלטים

תוכן העניינים

1. פיזיקה 1 להנדסת אלקטרוניקה ותכנה 2021 (ללא ספר)
2. פיזיקה 1 הנדסת אלקטרוניקה 3 שש 2020 (ללא ספר)