

פיזיקה להנדסאי בניין



תוכן העניינים

1	1. הקדמה מתמטית לקורס
7	2. מבוא פיזיקאלי
15	3. קינמטיקה- תנועה בקו ישר
38	4. וקטורים
59	5. נפילה חופשית וזריקה אנכית
67	6. קינמטיקה - תנועה במישור
74	7. תנועה יחסית
77	8. תרגילים לחזרה עד לחלק זה
79	9. דינמיקה - תנועה בהשפעת כוחות (חוקי ניוטון)
112	10. תנועה הרמונית
126	11. כבידה
141	12. מומנט התמד
151	13. מומנט כוח
161	14. אופטיקה

פיזיקה להנדסאי בניין

פרק 1 - הקדמה מתמטית לקורס

תוכן העניינים

- 1.0 פונקציות טריגונומטריות..... 1
- 1.1 משוואת הקו הישר..... 5
- 2.2 הפרבולה..... 6

פונקציות טריגונומטריות:

רקע

במשולש ישר זווית:

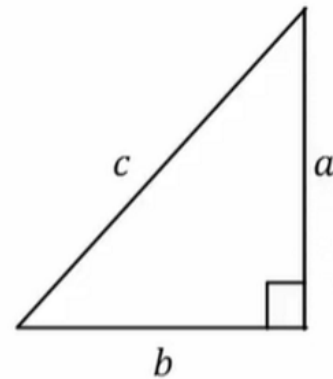
$$\sin \alpha = \frac{a}{c} = \frac{\text{ניצב שמול}}{\text{יתר}}$$

$$\cos \alpha = \frac{b}{c} = \frac{\text{ניצב ליד}}{\text{יתר}}$$

$$\tan \alpha = \frac{a}{b} = \frac{\text{ניצב שמול}}{\text{ליד ניצב}}$$

$$\tan \alpha = \frac{\sin \alpha}{\cos \alpha}$$

$$\cot \alpha = \frac{b}{a} = \frac{\text{ניצב ליד}}{\text{ניצב שמול}} = \frac{1}{\tan \alpha}$$



משפט פיתגורס:

$$a^2 + b^2 = c^2$$

זהויות:

$\sin(90^\circ - \alpha) = \cos \alpha$ $\cos(90^\circ - \alpha) = \sin \alpha$ $\tan(90^\circ - \alpha) = \cot \alpha$ $\cot(90^\circ - \alpha) = \tan \alpha$	$90^\circ - \alpha$
$\sin(90^\circ + \alpha) = \cos \alpha$ $\cos(90^\circ + \alpha) = -\sin \alpha$ $\tan(90^\circ + \alpha) = -\cot \alpha$ $\cot(90^\circ + \alpha) = -\tan \alpha$	$90^\circ + \alpha$
$\sin(180^\circ - \alpha) = \sin \alpha$ $\cos(180^\circ - \alpha) = -\cos \alpha$ $\tan(180^\circ - \alpha) = -\tan \alpha$ $\cot(180^\circ - \alpha) = -\cot \alpha$	$180^\circ - \alpha$
$\sin(-\alpha) = -\sin \alpha$ $\cos(-\alpha) = \cos \alpha$ $\tan(-\alpha) = -\tan \alpha$ $\cot(-\alpha) = -\cot \alpha$	$-\alpha$
$\sin 2\alpha = 2 \sin \alpha \cos \alpha$ $\cos 2\alpha = \cos^2 \alpha - \sin^2 \alpha = 1 - 2 \sin^2 \alpha = 2 \cos^2 \alpha - 1$	2α
$\sin(\alpha \pm \beta) = \sin \alpha \cos \beta \pm \sin \beta \cos \alpha$ $\cos(\alpha \pm \beta) = \cos \alpha \cos \beta \mp \sin \alpha \sin \beta$	$\alpha \pm \beta$

ערכים ששווה לזכור:

הזווית להפונקציה	0°	30°	45°	60°	90°
$\sin \alpha$	0	$\frac{1}{2}$	$\frac{1}{\sqrt{2}} = \frac{\sqrt{2}}{2}$	$\frac{\sqrt{3}}{2}$	1
$\cos \alpha$	1	$\frac{\sqrt{3}}{2}$	$\frac{1}{\sqrt{2}} = \frac{\sqrt{2}}{2}$	$\frac{1}{2}$	0

$\tan \alpha$	0	$\frac{1}{\sqrt{3}}$	1	$\sqrt{3}$	לא מוגדר
---------------	---	----------------------	---	------------	----------

שאלות:

(1) חישוב אלפא

חשב את הזווית אלפא במקרים הבאים:



(2) משולשים שמסורטטים אחרת

חשב את הזווית אלפא במקרים הבאים:



(3) מציאת ניצבים

חשב את x במקרים הבאים:



תשובות סופיות:

- | | | | |
|------------------------|---------------------------|------------------------|----------------------------|
| | ג. $\alpha = 69^\circ$ | ב. $\alpha = 53^\circ$ | א. $\alpha = 22^\circ$ (1) |
| ד. $\alpha = 55^\circ$ | ג. $\alpha = 68.2^\circ$ | ב. $\alpha = 60^\circ$ | א. $\alpha = 45^\circ$ (2) |
| ד. $1.53m$ | ג. $\frac{5\sqrt{3m}}{2}$ | ב. $2\sqrt{2m}$ | א. $\sqrt{3m}$ (3) |

משוואת הקו הישר:

רקע:

משוואת הקו הישר:

$$y = mx + n$$

m - שיפוע

n - נקודת חיתוך עם ציר ה- y .

$m = \frac{\Delta y}{\Delta x} = \tan \alpha$ כאשר α היא הזווית של הישר עם ציר ה- x .

מכפלת השיפועים של שני ישרים מאונכים היא -1 .

מרחק בין שתי נקודות:

$$d^2 = (x_2 - x_1)^2 + (y_2 - y_1)^2$$

שאלות:

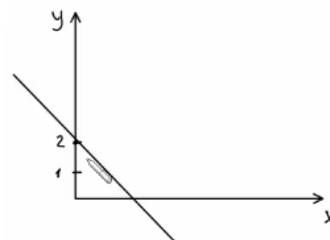
(1) משוואת הישר משתי נקודות

- א. מצא את משוואת הקו הישר העובר דרך שתי הנקודות: $(-1, 3)$, $(4, -2)$.
 ב. שרטט איור עבור הקו על גבי מערכת צירים.

תשובות סופיות:

(1) א. $y = -x + 2$

ב.



הפרבולה:

רקע:

משוואת הפרבולה:

$$y = ax^2 + bx + c$$

נוסחת השורשים:

$$x_{1,2} = \frac{-b \pm \sqrt{b^2 - 4ac}}{2a}$$

שאלות:

(1) נתונה הפרבולה הבאה: $y = -x^2 + 2x + 3$.

- א. מצאו את נקודות החיתוך עם הצירים ואת נקודת הקודקוד של הפרבולה.
 ב. קבעו האם הפרבולה מחייכת או עצובה, ושרטטו איור מקורב של הפרבולה לפי הנתונים שקיבלתם.

תשובות סופיות:

- (1) א. חיתוך עם הציר האנכי: $(0,3)$, נקודות חיתוך עם הציר האופקי: $(-1,0)$, $(3,0)$, נקודת הקודקוד: $(1,4)$.
 ב. עצובה.



פיזיקה להנדסאי בניין

פרק 2 - מבוא פיזיקאלי

תוכן העניינים

1. צורת כתיבה ורמת דיוק (ללא ספר) 7
2. יחידות פיזיקאליות 8
3. מעברים בין יחידות 10
4. צפיפות 12
5. הערכת סדרי גודל 13
6. תרגילים 13

יחידות פיזיקאליות:

רקע

חוקי חזקות:

$$(ab)^c = a^c b^c$$

$$a^b a^c = a^{b+c}$$

$$(a^b)^c = a^{bc}$$

$$\frac{1}{a^b} = a^{-b}$$

שאלות:

(1) תרגיל

נתון: $A = 2m \cdot \text{sec}$, $B = 3m^2$, $C = 1 \frac{\text{kg}}{\text{sec}}$, $D = 2 \frac{\text{kg}}{m}$.

בדוק האם הפעולות הבאות חוקיות. במידה והן חוקיות, חשב את התוצאה שלהן:

א. $\frac{A}{B} + CA$

ב. $\frac{AC}{B} + D$

ג. $\frac{C}{D}A + B$

תשובות סופיות:

(1) א. פעולה לא חוקית. ב. $2.66 \frac{\text{kg}}{m}$. ג. $4m^2$

מעברים בין יחידות:

נוסחאות:

$$1km=1000m ; 1kg=1000gr \quad \text{קילו (k) זה 1000 :}$$

$$1mg = \frac{1}{1000} gr \quad \text{ומיליגרם , } 1mm = \frac{1}{1000} m \quad \text{מילימטר : לדוגמה : } \frac{1}{1000} m \text{ זה } (m) \text{ מילי}$$

$$1liter=1000cm^3 \quad \text{ליטר :}$$

$$1קוב = 1000m^3 = 1000liter$$

$$1lightyear = 9.4608 \cdot 10^{15}m \quad \text{שנת אור היא המרחק שהאור עושה בשנה}$$

שאלות:

(1) דוגמה 1 - מעברים של יחידות לא בסיסיות

$$\text{נתון : } A = 2km , B = 10gr$$

מצא את $C = A \cdot B$ ביחידות של m.k.s.

(2) דוגמה 2 - מעברים של יחידות לא בסיסיות

$$\text{נתון : } A = 2m^2 , B = 3gr , C = 5cm \cdot s$$

חשב את הגדלים הבאים ביחידות של m.k.s :

$$D = 2 \cdot A \quad \text{א.}$$

$$E = \frac{5 \cdot B \cdot C}{A} \quad \text{ב.}$$

(3) מעבר יחידות בחזקות

מצא את הגדלים הבאים, ביחידות של ס"מ:

$$A = 1m^2 \quad \text{א.}$$

$$B = 1m^3 \quad \text{ב.}$$

(4) סנטימטר בשלישית

הבע את הערכים הנ"ל ביחידות של $c.m^3$.

- א. $5 \cdot 2m^3$
 ב. $320mm^3$
 ג. $0.0054km^3$

(5) ליטר - דוגמה

הבע את הגדלים הבאים ב-liter.

- א. $5m^3$
 ב. $5mm^3$

תשובות סופיות:

- (1) $20m \cdot kg$
 (2) א. $4m^2$
 (3) א. $10^4 cm^2$
 (4) א. $5.2 \cdot 10^6 cm^3$
 (5) א. $5 \cdot 10^3 liter$
 ב. $37.5 \cdot 10^{-5} \frac{sec \cdot kg}{m}$
 ב. $10^6 cm^3$
 ב. $0.32 cm^3$
 ב. $5 \cdot 10^{-6} liter$
 ג. $5.4 \cdot 10^{12} cm^3$

צפיפות:

רקע

$$\rho = \frac{M}{V} : \text{צפיפות נפחית}$$

$$\sigma = \frac{M}{S} : \text{צפיפות משטחית}$$

$$\lambda = \frac{M}{l} : \text{צפיפות אורכית}$$

V, S, l הם נפח שטח ואורך הגוף בהתאמה

שאלות:

1) דיסקה עם חור

- א. מצא את הצפיפות של דיסקה בעלת רדיוס R ומסה M .
- ב. בדיסקה קדחו חור ברדיוס r .
מצא את המסה שהוצאה מהדיסקה.

תשובות סופיות:

$$(1) \quad \text{א. } \frac{M}{\pi R^2} \quad \text{ב. } M \left(\frac{r}{R} \right)^2$$

הערכת סדרי גודל:

שאלות:

(1) נשימות

הערך את מספר הנשימות של אדם בחייו.

תשובות סופיות:

(1) $N = 10^9$

תרגילים:

שאלות:

(1) מסע של האור

האור זז במהירות של $v = 3 \cdot 10^8 \frac{\text{m}}{\text{s}}$ כ-.

א. חשב את המרחק שעובר האור בשנתיים.

ב. כמה זמן ייקח לאור לעבור בין שתי גלקסיות שהמרחק ביניהם

הוא: $2 \cdot 10^{19} \text{ m}$?

(2) צפיפות אטום המימן

חשב פי כמה גדולה צפיפות הפרוטון מצפיפות אטום המימן המורכב מפרוטון ואלקטרון בלבד. מסת הפרוטון: $1.67 \cdot 10^{-27} \text{ kg}$, מסת האלקטרון: $9.11 \cdot 10^{-31} \text{ kg}$, קוטר הפרוטון: $3 \cdot 10^{-15} \text{ m}$, קוטר אטום המימן: 10^{-10} m .

(3) שלג על הירח

הנח שעל הירח יורד שלג, השלג יורד בקצב שבו כל חצי שניה פוגע פתית שלג בפני הירח. הערך תוך כמה זמן יכוסה הירח כולו בשכבת שלג בגובה 2 מטר (הנח שהשלג לא נמס). רדיוס הירח: $1.74 \cdot 10^6 \text{ m}$, רדיוס פתית שלג הוא: 2 c.m .

(4) אטומים בגרגיר חול

רדיוס אטום הוא בערך: 10^{-7} c.m . רדיוסו של גרגיר חול הוא: 10^{-2} c.m . הערך כמה אטומים יש בגרגיר חול.

הדרכה: השתמש בנוסחה של נפח כדור: $V = \frac{4\pi R^3}{3}$ עבור נפח האטום ועבור נפח הגרגיר. התעלם מ"רווחים" בין האטומים בתוך גרגיר החול.

(5) כדורי פינגפונג בחדר

הערך כמה כדורי פינגפונג ניתן לדחוס בחדר ממוצע

תשובות סופיות:

$$t = 2000 \text{ ב.} \quad 2 \cdot 10^{16} \text{ m} \quad (1)$$

$$3.71 \cdot 10^{13} \quad (2)$$

$$t = 1.14 \cdot 10^{18} \text{ sec} \quad (3)$$

$$N = 10^{15} \quad (4)$$

$$750,000 \quad (5)$$

פיזיקה להנדסאי בניין

פרק 3 - קינמטיקה - תנועה בקו ישר

תוכן העניינים

15	1. העתק.....
17	2. תנועה במהירות קבועה.....
22	3. מהירות ממוצעת.....
24	4. תאוצה.....
29	5. תרגול.....
35	6. מהירות רגעית ותאוצה רגעית.....
37	7. מהירות רגעית ותאוצה רגעית - אינטגרלים.....

העתק:

רקע

תנועה בקו ישר - תנועה על ציר אחד.

כאשר מגדירים ציר, צריך:

1. לבחור מה יהיה הכיוון החיובי של הציר.
2. לבחור איפה תהיה הראשית

העתק- השינוי במיקום הגוף

סימון ההעתק הוא $\Delta x = x_2 - x_1$

העתק שלילי - תנועה בכיוון הפוך לכיוון החיובי של הציר

דרך - אורך כל המסלול שעשה הגוף, סימון באות S

שאלות:

(1) כדור

חשב את ההעתק של כדור המתחיל תנועתו ב- $x = 2\text{m}$, ומסיים את תנועתו ב- $x = 1\text{m}$.
מהו כיוון תנועתו של הכדור?

(2) דני ודנה

הבתים של דני ודנה נמצאים ברחוב ישר. דני בחר את ראשית הצירים בסוף הרחוב, ואת הכיוון החיובי ימינה.
הבית של דני נמצא ב- $x = -50\text{m}$, והבית של דנה ב- $x = -20\text{m}$, ביחס לראשית. מה ההעתק שביצע דני בהלוך ומה ההעתק שביצע בדרך חזרה? מה כיוון ההעתק בכל אחד מהמקרים?

(3) העתק ודרך

מכונית נוסעת מת"א לחיפה, וחוזרת חזרה לת"א. המרחק בין הערים הוא 100 ק"מ. מצא את ההעתק שביצעה המכונית ואת הדרך שעשתה. (הנח שהכביש המחבר בין הערים ישר).

תשובות סופיות:

(1) -3m

(2) בדרך הלוך : 30m , הכיוון חיובי ; בדרך חזור : -30m , הכיוון שלילי.(3) העתק : $\Delta x = 0$, דרך : $s = 200$.

תנועה במהירות קבועה:

רקע

מהירות קבועה או ממוצעת:

$$v = \frac{\Delta x}{\Delta t} = \frac{x_2 - x_1}{t_2 - t_1}$$

היחידות של המהירות הם יחידות של אורך חלקי זמן. ב m.k.s היחידות הן $\frac{m}{sec}$

המיקום כתלות בזמן במהירות קבועה:

$$x(t) = x_0 + v(t - t_0)$$

גרפים:

גרף המיקום במקרה של תנועה במהירות קבועה יהיה קו ישר. שיפוע הגרף הוא המהירות.

גרף המהירות במקרה של מהירות קבועה הוא קו ישר אופקי.

השטח מתת לגרף המהירות הוא ההעתק, עובדה זו נכונה גם עבור מהירות לא קבועה.

השטח החיובי מתחת לגרף המהירות הוא הדרך

שאלות:

(1) יוסי מאחר לשיעור

יוסי מאחר לשיעור, ביתו נמצא בקו ישר ממול שער הכניסה לאוניברסיטה. המרחק בין ביתו לשער הוא 100 מטרים. מצא את מהירות ריצתו של יוסי, אם הוא הגיע תוך 20 שניות מביתו לשער האוניברסיטה.

(2) מיקומו של גוף

מיקומו של גוף ב- $t = 2sec$ הוא $x = 3m$. לאחר 4 שניות מיקומו הוא: $x = -2m$. מצא את מהירותו, אם ידוע שהיא קבועה.

(3) תנועה ביחס ל-A

גוף נע בקו ישר במהירות קבועה של: $v = 5 \frac{m}{sec}$. ברגע $t = 0$ הגוף חולף בנקודה A.

- א. מהו מיקומו של הגוף ברגעים: $t = 2\text{sec}$ ו- $t = 8\text{sec}$ ביחס לנקודה A?
 ב. כעבור כמה זמן חלף הגוף במרחק 200 מטר מהנקודה A?

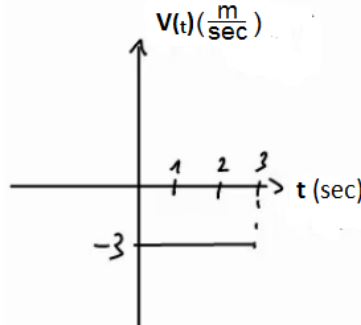
(4) גוף חולף דרך שתי נקודות

- גוף נע במהירות קבועה לאורך קו ישר, ברגע $t = 2\text{sec}$ מיקומו הוא $x = 2\text{m}$,
 וברגע $t = 6\text{sec}$ הוא חולף בנקודה ששיעורה $x = 10\text{m}$.
 א. מהי מהירות הגוף?
 ב. היכן יהיה הגוף ברגע $t = 0$?
 ג. מצא את הנוסחה עבור מיקום הגוף כפונקציה של הזמן.
 ד. מתי יהיה הגוף בראשית הצירים?
 ה. כמה העתק ביצע הגוף מהרגע שבו $t = 0$ עד לרגע שבו $t = 10\text{sec}$?

(5) גוף נע שמאלה

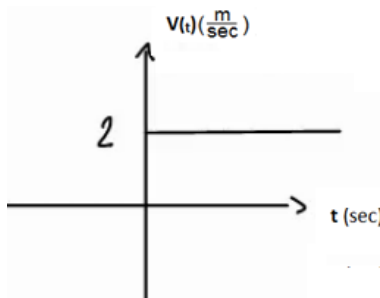
- גוף נע בקו ישר במהירות קבועה שגודלה $6 \frac{\text{m}}{\text{sec}}$. ברגע $t = 0$ מיקום הגוף הוא: $x = 50\text{m}$.
 בחר את כיוון ציר ה- x ימינה והנח שהגוף נע שמאלה.
 א. מהו מיקום הגוף כתלות בזמן?
 ב. היכן נמצא הגוף ב- $t = 2\text{sec}$ וב- $t = 3\text{sec}$?
 ג. מתי יהיה הגוף במרחק $x = 20\text{m}$ מהראשית ומתי יהיה במרחק של $x = -10\text{m}$?

(6) מהירות שלילית



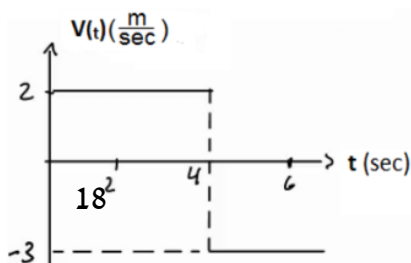
- נתון הגרף הבא של מהירות של גוף כתלות בזמן.
 א. מצא את ההעתק של הגוף בין הזמנים $t = 1\text{sec}$ ל- $t = 3\text{sec}$.
 ב. מצא נוסחה למיקום, כתלות בזמן של הגוף, אם ידוע שב- $t = 0$ מיקומו היה $x = 2\text{m}$.
 ג. שרטט גרף מקום כתלות בזמן של הגוף.

(7) מיקום שלילי



- נתון הגרף הבא של מהירות של גוף כתלות בזמן.
 א. מצא נוסחה למיקום כתלות בזמן של הגוף, אם ידוע שב- $t = 2\text{sec}$ מיקומו היה $x = -4\text{m}$.
 ב. שרטט גרף מקום כתלות בזמן של הגוף.

(8) מהירות מתחלפת



- נתון הגרף הבא של מהירות של גוף כתלות בזמן.
 א. מצא את ההעתק של הגוף בין הזמנים $t = 1\text{sec}$ ל- $t = 6\text{sec}$.

- ב. מצא נוסחה למיקום כתלות בזמן של הגוף
 אם ידוע שב- $t = 0$ מיקומו היה $x = 2\text{m}$.
- ג. שרטט גרף מקום כתלות בזמן של הגוף.

9) שתי מכוניות זו לקראת זו

שתי מכוניות נעות זו לקראת זו לאורך כביש דו נתיבי ישר.

- מכונית א' יוצאת מנקודה המרוחקת 140 מטר מימין לראשית, ונעה במהירות $8 \frac{\text{m}}{\text{sec}}$,
 ומכונית ב' יוצאת מנקודה המרוחקת 40 מטר משמאל לראשית ונעה במהירות $10 \frac{\text{m}}{\text{sec}}$.
- א. מתי חולפות המכוניות זו על יד זו? ומהן מיקומן ביחס לראשית ברגע זה?
 ב. מתי המרחק בין המכוניות יהיה 40 מטר?

10) מכונית נוסעת מת"א לירושלים

- מכונית נוסעת מתל אביב לירושלים במהירות של 90 קמ"ש, חונה בירושלים
 למשך שעה אחת, וחוזרת לתל אביב במהירות של 45 קמ"ש.
 המרחק בין הערים תל אביב וירושלים הוא 45 ק"מ.
 לשם הפשטות, נניח כי התנועה מתנהלת לאורך קו ישר.
- א. שרטט גרף מקום-זמן של תנועת המכונית.
 איזה גודל פיסיקלי מייצגים שיפועי הישרים?
 ב. רשום נוסחת מקום-זמן של תנועת המכונית.
 ג. שרטט גרף מהירות-זמן.

11) אופנוע ומכונית מת"א לאילת

- אופנוע יוצא לדרכו מת"א לאילת במהירות קבועה שגודלה 80 ק"מ לשעה.
 חצי שעה לאחר צאת האופנוע יוצאת מכונית מאילת לת"א במהירות קבועה
 של 120 ק"מ לשעה.
- המרחק בין שתי הערים הוא 340 ק"מ, ונניח שהכביש המחבר ביניהם הוא ישר.
- א. הגדר ציר מיקום עבור תנועת האופנוע והמכונית.
 ב. כתוב נוסחת מיקום-זמן עבור תנועת האופנוע.
 ג. כתוב נוסחת מיקום-זמן עבור תנועת המכונית.
 ד. כמה זמן לאחר צאת האופנוע לדרכו הוא יחלוף על פני המכונית?
 מה מיקומם של האופנוע והמכונית ברגע זה?

תשובות סופיות:

$$5 \frac{\text{m}}{\text{sec}} \quad (1)$$

$$-\frac{5 \text{ m}}{4 \text{ sec}} \quad (2)$$

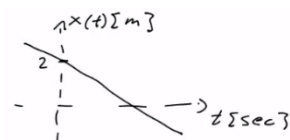
$$t = 40 \text{ sec} \quad \text{ב.} \quad x(t=2) = 10 \text{ m}, \quad x(t=8) = 40 \text{ m} \quad \text{א.} \quad (3)$$

$$\Delta x = 20 \text{ m} \quad \text{ה.} \quad t = 1 \text{ sec} \quad \text{ז.} \quad x(t) = 2 + 2(t-2) \quad \text{ג.} \quad x_3 = -2 \text{ m} \quad \text{ב.} \quad 2 \frac{\text{m}}{\text{sec}} \quad \text{א.} \quad (4)$$

$$x(t=2) = 38 \text{ m}, \quad x(t=3) = 32 \text{ m} \quad \text{ב.} \quad x(t) = 50 - 6t \quad \text{א.} \quad (5)$$

$$t(x=20) = 5 \text{ sec}, \quad t(x=-10) = 10 \text{ sec} \quad \text{ג.}$$

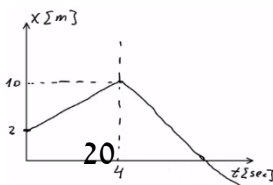
$$\text{ג.} \quad x(t) = 2 - 3t \quad \text{ב.} \quad S = -6 \text{ m} \quad \text{א.} \quad (6)$$



$$\text{ב.} \quad x(t) = -8 + 2t \quad \text{א.} \quad (7)$$



$$\text{ג.} \quad x(t) = \begin{cases} 2 + 2t & 0 \leq t \leq 4 \\ 22 - 3t & t \geq 4 \end{cases} \quad \text{ב.} \quad \Delta x = 0 \quad \text{א.} \quad (8)$$



9) א. חולפות ב- $t = 10 \text{ sec}$, ומיקומן הוא $x_{a,b}(t = 10) = 60 \text{ m}$.

ב. $t_1 \approx 7.78 \text{ sec}$ או $t_2 \approx 12.22$.

$$x(t) = \begin{cases} 90t & 0 \leq t \leq \frac{1}{2} \\ 45 & \frac{1}{2} \leq t \leq \frac{3}{2} \\ 45 - 45\left(t - \frac{3}{2}\right) & \frac{3}{2} \leq t \leq \frac{5}{2} \end{cases} \text{ ב.}$$

10) א. השיפועים מייצגים מהירות.



11) א. נגדיר את ראשית הצירים בת"א $x = 0$, ואת הכיוון החיובי לאילת.

ד. $x = 160 \text{ km}$; $t = 2 \text{ hr}$

ב. $x(t) = 80t$ ג. $x(t) = 340 + (-120)\left(t - \frac{1}{2}\right)$

מהירות ממוצעת:

שאלות:

(1) דני נוסע מחיפה לטבריה

דני נסע ברכבו מחיפה לטבריה. הוא התחיל בנסיעה במהירות של 80 קמ"ש, נסע במשך חצי שעה, ואז עצר לאכול צוהריים למשך שעה. לאחר מכן, המשיך בנסיעה במהירות של 100 קמ"ש במשך שעה, עד אשר הגיע לטבריה. מהי מהירות הנסיעה הממוצעת של דני?



(2) מהירות ממוצעת מתוך גרף

מהירותו של גוף נתונה בגרף הבא. מהי המהירות הממוצעת בה נע הגוף?

(3) מת"א לב"ש דרך חיפה

אורי נסע מת"א לבאר שבע דרך חיפה. הנח שחיפה נמצאת 60 ק"מ צפונה מת"א ובאר שבע נמצאת 100 ק"מ דרומה מת"א. הנח שכל הערים נמצאות על אותו קו ישר. בדרכו לחיפה נסע אורי במהירות של 90 ק"מ לשעה. בדרכו לבאר שבע נסע אורי במהירות של 120 ק"מ לשעה.

א. מצא את המהירות הממוצעת של אורי (velocity).

ומצא את ממוצע גודל המהירות של אורי (speed).

ב. שילה יצאה מת"א לבאר שבע חצי שעה לאחר אורי, שילה נסעה בדרך הקצרה ביותר.

באיזו מהירות ממוצעת (velocity) צריכה שילה לנסוע על מנת שתגיע לבאר שבע באותו זמן שבו יגיע אורי?

מה ממוצע גודל המהירות של שילה (speed)?



(4) מהירות ממוצעת בגרף לינארי

מהירותו של גוף נתונה בגרף הבא:

א. מצא את המהירות הממוצעת של הגוף

(average velocity) ואת ממוצע גודל

המהירות (average speed) עבור כל התנועה.

ב. מצא את המהירות הממוצעת של הגוף

(average velocity) בקטע שבין $t = 3 \text{ sec}$ ל- $t = 7 \text{ sec}$.

תשובות סופיות:

$$\bar{v} = 56 \frac{\text{km}}{\text{hr}} \quad (1)$$

$$\bar{v} = 1.33 \frac{\text{m}}{\text{sec}} \quad (2)$$

$$\bar{v} = -66.67 \frac{\text{km}}{\text{hr}}, |\bar{v}| = 66.67 \frac{\text{km}}{\text{hr}} \quad \text{ב.} \quad \bar{v} = -50 \frac{\text{km}}{\text{hr}}, |\bar{v}| = 110 \frac{\text{km}}{\text{hr}} \quad \text{א.} \quad (3)$$

$$2.5 \frac{\text{m}}{\text{sec}} \quad \text{ב.} \quad \bar{v} = \frac{4}{7} \frac{\text{m}}{\text{sec}}, |\bar{v}| = \frac{16}{7} \frac{\text{m}}{\text{sec}} \quad \text{א.} \quad (4)$$

תאוצה:

שאלות:

- (1) מטוס מאיץ בתאוצה קבועה**
 מטוס מתחיל להאיץ ממנוחה בתאוצה קבועה.
 לאחר 10 שניות הגיע המטוס למהירות 150 מטר לשנייה.
 מהי תאוצת המטוס?
- (2) משאית מאיצה**
 משאית נוסעת במהירות של 70 קמ"ש ומאיצה תוך 10 שניות למהירות של 90 קמ"ש.
 מהי תאוצת המשאית?
- (3) אופנוע מאיץ ממנוחה**
 אופנוע מתחיל את נסיעתו ממנוחה, בתאוצה של 2 מטר לשנייה בריבוע.
 א. מצא את נוסחת מהירות-זמן עבור האופנוע.
 ב. מה תהיה מהירותו לאחר 7 שניות?
 ג. מתי תהיה מהירותו 20 מטר לשנייה?
- (4) אופנוע מאיץ אחרי מכונית**
 מכונית נוסעת במהירות קבועה של 20 מטר לשנייה.
 ברגע מסוים מתחילה המכונית להאיץ בתאוצה קבועה של 2 מטר לשנייה בריבוע.
 אופנוע מתחיל את תנועתו שנייה לאחר המכונית ומאיץ בתאוצה של 3 מטר לשנייה בריבוע, ממנוחה.
 מתי תהיה מהירות האופנוע שווה למהירות המכונית?
- (5) תאוטה**
 לפניך מספר מקרים בהם רכב משנה את מהירותו. מצא בכל מקרה את תאוצת הרכב וציין האם הרכב האיץ או שהרכב נמצא בתאוטה:

 - א. רכב משנה את מהירותו ממהירות של 20 מטר לשנייה, למהירות של 10 מטר לשנייה, תוך 5 שניות.
 - ב. רכב משנה את מהירותו ממהירות של 20 מטר לשנייה למהירות של 10 מטר לשנייה, תוך 4 שניות.
 - ג. רכב משנה את מהירותו מ-5 מטר לשנייה ל-15 מטר לשנייה תוך 2 שניות.
 - ד. רכב משנה את מהירותו מ-5 מטר לשנייה ל-15 מטר לשנייה תוך 5 שניות.
 - ה. רכב משנה את מהירותו מ-10 מטר לשנייה ל-5 מטר לשנייה, תוך 4 שניות.

**6) גרף מהירות**

בגרף הבא מתוארת מהירותו של גוף, כתלות בזמן. מצא את התאוצה בכל אחד מחלקי התנועה ושרטט גרף עבור התאוצה כתלות בזמן. ציין עבור כל חלק האם הגוף מאיץ או נמצא בתאוצה.

**7) גרף מהירות שלילית**

בגרף הבא מתוארת מהירותו של גוף כתלות בזמן. מצא את התאוצה בכל אחד מחלקי התנועה ושרטט גרף עבור התאוצה כתלות בזמן. ציין עבור כל חלק האם הגוף מאיץ או נמצא בתאוצה.

8) דנה רצה בתאוצה קבועה

דנה מתחילה לרוץ ממנוחה בתאוצה קבועה השווה ל-2 מטר לשנייה בריבוע.
 א. מצא את המהירות של דנה לאחר 1, 2, ו-3 שניות.
 ב. מצא את המיקום של דנה לאחר 1, 2, 3 ו-4 שניות.
 ג. שרטט על גבי ציר את המיקום של דנה בכל אחד מהרגעים.

9) אופנוע משיג מכונית

מכונית נוסעת במהירות קבועה של 30 מטר לשנייה. ברגע מסוים המכונית חולפת על פני אופנוע הנמצא במנוחה. שתי שניות לאחר מכן מתחיל האופנוע נסיעה בתאוצה קבועה של 4 מטר לשנייה בריבוע. מתי ישיג האופנוע את המכונית?

10) דני ודנה רצים זה לקראת זה

דני ודנה רצים זה לקראת זה. שניהם מתחילים לרוץ ממנוחה. דני רץ בתאוצה של 0.5 מטר לשנייה בריבוע ודנה בתאוצה של 1 מטר לשנייה בריבוע. המרחק ההתחלתי ביניהם הוא 50 מטר.
 א. מתי והיכן יפגשו דני ודנה?
 ב. מה מהירות כל אחד מהם ברגע המפגש?

**11) גרפים של תאוצה, מהירות ומיקום**

גוף מתחיל לנוע ממנוחה מראשית הצירים. תאוצתו של הגוף נתונה בגרף הבא:
 א. מצא נוסחת מהירות-זמן עבור הגוף.
 ב. מצא נוסחת מיקום-זמן עבור הגוף.
 ג. שרטט גרפים עבור המהירות והמיקום, כתלות בזמן.

(12) מסלול המראה של ססנה

מטוס ססנה צריך להגיע למהירות של 150 קמ"ש על מנת להמריא. חשב מה אורך מסלול ההמראה הדרוש למטוס, אם תאוצתו היא 5 מטר לשנייה בריבוע.

(13) מרחק בלימה

יוסי נוסע במכוניתו במהירות של 100 קמ"ש. לפתע הוא מבחין באוטובוס המשתלב בנתיב התנועה שלו. האוטובוס נוסע במהירות של 60 קמ"ש. מהו "מרחק הבלימה" (המרחק הדרוש ליוסי בשביל להאט ל-60 קמ"ש), אם הוא מאט בקצב של 4 מטר לשנייה בריבוע?

(14) עומר עוצר לפני רמזור

עומר נסע במכוניתו במהירות של 50 קמ"ש. לפתע הבחין כי הרמזור שלפניו התחלף לאדום. עומר התחיל לבלום את רכבו, עד שהגיע לעצירה מוחלטת. הנח שהעצירה נעשית בקצב קבוע.

א. מהי המהירות הממוצעת במהלך העצירה?

ב. ברגע העצירה היה מרחקו של עומר מהרמזור 35 מטר. הזמן שלקח לעומר להגיע לעצירה מוחלטת היה 5 שניות, האם יספיק עומר לעצור לפני הרמזור?

תשובות סופיות:

(1) $15 \frac{m}{sec^2}$

(2) $0.5 \frac{m}{sec^2}$

(3) א. $V(t) = 2 \cdot t$ ב. $14 \frac{m}{sec}$ ג. $t = 10sec$

(4) $t = 23sec$

(5) א. $-2 \frac{m}{sec^2}$; תאוטה. ב. $2.5 \frac{m}{sec^2}$; תאוטה. ג. $5 \frac{m}{sec^2}$; תאוצה.

ד. $-2 \frac{m}{sec^2}$; תאוצה. ה. $-3.75 \frac{m}{sec^2}$; המהירות חיובית - בתאוטה ($V \geq 0$),

המהירות שלילית - בתאוצה ($V < 0$).

(6) חלק 1 - כאשר $0 \leq t \leq 3$ או $a_1 = \frac{4}{3} \frac{m}{sec^2}$ - מאיץ. שרטוט:

חלק 2 - כאשר $3 \leq t \leq 6$ או $a_2 = 0$ - לא מאיץ ולא מאט; המהירות קבועה.

חלק 3 - כאשר $0 \leq t \leq 3$ או $a_3 = -4 \frac{m}{sec^2}$ - בתאוטה.

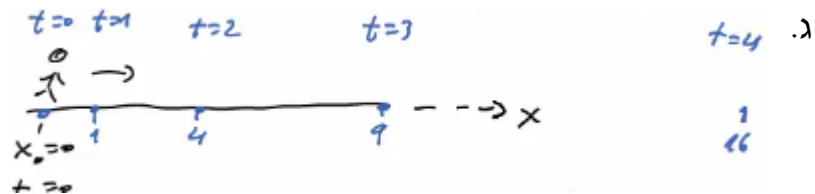
(7) חלק 1 - כאשר $0 \leq t \leq 2$ או $a_1 = 1.5 \frac{m}{sec^2}$ - מאיץ. שרטוט:

חלק 2 - כאשר $2 \leq t \leq 5$ או $a_2 = \frac{-8}{3} \approx -2.67 \frac{m}{sec^2}$:

כשהמהירות חיובית - בתאוטה ($V \geq 0$),
וכשהמהירות שלילית - בתאוצה ($V < 0$).

(8) א. $V(t=1) = 2 \frac{m}{sec}$, $V(t=2) = 4 \frac{m}{sec}$, $V(t=3) = 6 \frac{m}{sec}$

ב. $X(t=1) = 1^2 m$, $X(t=2) = 4m$, $X(t=3) = 9m$, $X(t=4) = 16m$



(9) $t_1 = 18.79$

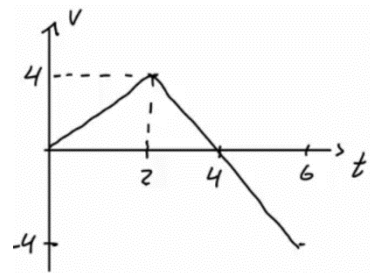
10 א. הזמן: $t = 8.16 \text{ sec}$, המיקום: 16.65 m .

ב. $V_{\text{Dana}}(t = 8.16) = -8.16 \frac{\text{m}}{\text{sec}}$, $V_{\text{Dani}}(t = 8.16) = 4.08 \frac{\text{m}}{\text{sec}}$

11 א. כאשר $0 < t < 2$, הנוסחה היא: $V(t) = 2t$; כאשר $2 < t < 6$, הנוסחה היא: $V(t) = 8 - 2t$.

ב. כאשר $0 < t < 2$; $X(t) = t^2$; כאשר $2 < t < 6$; $X(t) = 4 + 4(t-2) + \frac{1}{2}(-2)(t-2)^2$

ג. שרטוט עבור מהירות:



12 $\Delta x = 173.61 \text{ m}$

13 $\Delta x = 61.73 \text{ m}$

14 א. $\bar{v} = 25 \frac{\text{km}}{\text{hr}}$ ב. כן.



תרגול:

שאלות:

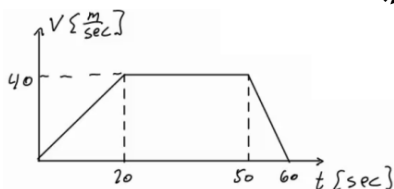
(1) מאפס לארבעים בעשר שניות

מכונית מתחילה לנסוע ממנוחה לאורך כביש ישר. המכונית מאיצה בתאוצה קבועה, כך שלאחר 10 שניות היא מגיעה למהירות של 40 מטר לשנייה.

- מהי תאוצת המכונית?
- מצא את ההעתק שביצעה המכונית בזמן ההאצה.
- מהי המהירות הממוצעת של המכונית בזמן ההאצה?
- האם ההעתק שמבצעת המכונית בחמש השניות הראשונות גדול, קטן או שווה להעתק בחמש השניות האחרונות?
- מתי יהיה מיקום המכונית 32 מטר מהנקודה ממנה יצאה?
- מהי המהירות המכונית לאחר שעברה 60 מטרים?

(2) גרף של מהירות אופנוע בזמן

בגרף הבא נתונה מהירותו של אופנוע כתלות בזמן. האופנוע נע על קו ישר. קבע את ראשית הצירים במיקום ההתחלתי של האופנוע.



- תאר את סוג התנועה של האופנוע בכל אחד מקטעי התנועה.
- מצא את תאוצת האופנוע כתלות בזמן.
- מהי מהירות האופנוע ברגעים $t = 15, 40, 55$?
- מצא את מיקום האופנוע באותם רגעים של סעיף ג'.

(3) דני שכח את הפלאפון

דני רץ בקו ישר במהירות קבועה שגודלה 14 מטר לשנייה. ברגע מסוים מבחין יוסי כי דני שכח את הפלאפון שלו. באותו רגע נמצא דני כבר במרחק של 64 מטר מיוסי. יוסי מתחיל לרוץ אחר דני ממנוחה בתאוצה קבועה של 8 מטר לשנייה בריבוע.

- מצא ביטוי למהירות כתלות בזמן עבור דני ויוסי. שרטט גרפים עבור שני הביטויים שמצאת על אותה מערכת צירים.
- מתי מהירותו של יוסי שווה לזו של דני? האם הוא משיג את דני ברגע זה?
- מצא ביטוי למיקום כתלות בזמן עבור דני ויוסי. שרטט גרפים עבור שני הביטויים שמצאת על אותה מערכת צירים.
- מתי ישיג יוסי את דני? כמה מרחק עבר יוסי עד אז?

4) גרף מהירויות של שני גופים

בגרף הבא מתוארות המהירויות של שני גופים, כתלות בזמן. הנח ששני הגופים נעים לאורך קו ישר ויוצאים מהראשית.

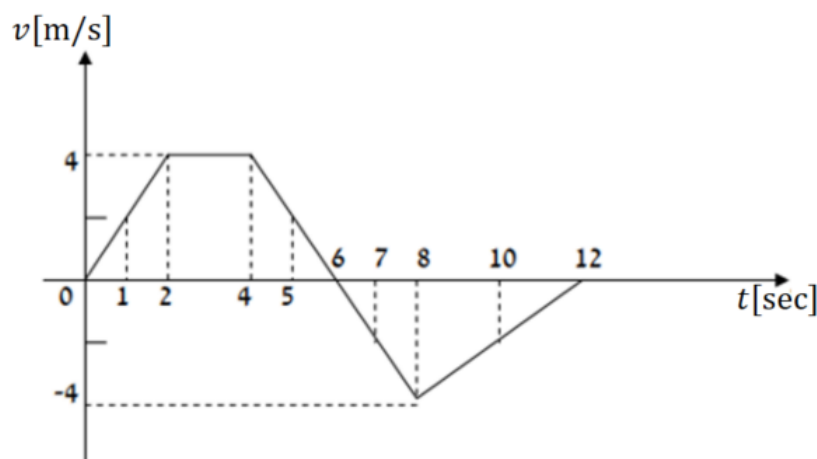


- תאר את תנועתו של כל גוף.
- רשום נוסחת מקום זמן לכל גוף.
- מצא את המרחק בין הגופים ברגעים: $t = 3 \text{ sec}$, 24 sec , וציין מי מקדים את מי.
- מתי מהירויות שני הגופים שוות?
- מתי מיקום שני הגופים זהה?

5) גרף מהירות זמן בקו ישר

מהירותו של גוף הנע לאורך קו ישר נתונה על ידי הגרף שבאיור.

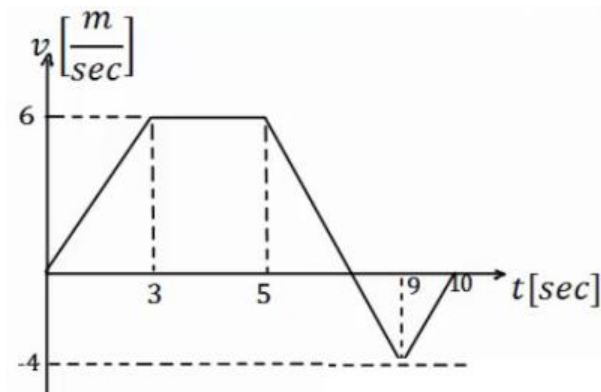
- האם תאוצתו של הגוף בזמן $t = 1 \text{ sec}$ שווה בגודלה ובכיוונה לתאוצתו בזמן שניות $t = 5 \text{ sec}$?
- האם בזמן $t = 10 \text{ sec}$ מרחק הגוף מנקודת מוצאו גדול יותר מאשר בזמן $t = 2 \text{ sec}$?
- האם תאוצת הגוף בזמן $t = 5 \text{ sec}$ שווה בגודלה אך הפוכה בכיוונה לתאוצתו בזמן $t = 7 \text{ sec}$?
- האם המרחק של הגוף מנקודת מוצאו מקסימלי בזמן $t = 12 \text{ sec}$?
- האם בזמן $t = 8 \text{ sec}$ מרחק הגוף מנקודת מוצאו גדול יותר ממרחקו בזמן $t = 5 \text{ sec}$?



6 תרגיל עם הכל

הגרף הבא מתאר את מהירותו של גוף הנע בקו ישר. הנח שהגוף מתחיל את תנועתו מהראשית. הגוף נע במשך 10 שניות ונעצר.

- א. תאר את התנועה של הגוף במילים. חשב ושרטט גרף של התאוצה כתלות בזמן של הגוף.
- ב. מתי נמצא הגוף במרחק הגדול ביותר (בכיוון החיובי) מהראשית? מהו מרחק זה?
- ג. מהו המרחק הכולל שעבר הגוף?
- ד. מהו ההעתק הכולל שעשה הגוף?
- ה. מהי המהירות הממוצעת של הגוף בתנועה?
- ו. מהו מרחק הגוף מהראשית ב- $t = 6\text{sec}$?
- ז. מתי נמצא הגוף במרחק 12 מטרים מהראשית?
- ח. שרטט גרף של מיקומו של הגוף כתלות בזמן. אין צורך לסמן ערכים בציר האנכי של הגרף.

**7 שני נתונים בזמנים שונים**

- גוף נע בקו ישר בתאוצה קבועה.
- ב- $t = 2\text{sec}$ מהירותו היא 15 מטרים לשנייה ומיקומו 5 מטרים מהראשית, בכיוון החיובי. ידוע גם שב- $t = 4\text{sec}$ מהירותו היא 21 מטר לשנייה.
- א. מצא את תאוצת הגוף.
 - ב. מצא נוסחת מיקום זמן של הגוף.
 - ג. מהו מיקום הגוף ב- $t = 0$, ומתי יהיה בראשית?
 - ד. מצא נוסחת מהירות זמן עבור הגוף.
 - ה. מהי המהירות בה הגוף התחיל את התנועה (מהירות ב- $t = 0$)?

(8) שוטר רודף אחרי מכונית

- שוטר נמצא בניידת משטרה. מכונית חולפת ליד הניידת במהירות של 150 קמ"ש. זמן התגובה של השוטר בניידת הוא 3 שניות ולאחר מכן הוא מתחיל לנסוע ממנוחה בתאוצה של $2 \frac{\text{m}}{\text{sec}^2}$. המהירות המקסימלית של הניידת היא 180 קמ"ש.
- א. באיזה מרחק מתחילת התנועה יתפוס השוטר את המכונית?
- ב. שרטטו על אותה מערכת צירים את הגרפים של המהירות כתלות בזמן של המכונית והניידת מהרגע בו חולפת המכונית ליד הניידת.

(9) זמן מינימלי לסיים מסלול**

- מכונית יכולה להאיץ מאפס ל-100 קמ"ש תוך 10 שניות, כאשר ניתן להניח שקצב ההאצה קבוע. אותה מכונית יכולה לבלום בקצב של 0.5g. מהו הזמן המינימלי לעבור מסלול של 3 ק"מ אם המכונית מתחילה ממנוחה ומסיימת בעצירה מוחלטת. (רמז: השתמש בגרף מהירות זמן).

(10) כמה זמן הרכבת נסעה במהירות קבועה**

- רכבת יוצאת מיישוב א' אל יישוב ב'. בשליש הראשון של הדרך הרכבת מאיצה בתאוצה קבועה. בשליש של הדרך הרכבת נוסעת במהירות קבועה. בשליש האחרון של הדרך הרכבת מאטה בקצב קבוע עד לעצירתה ביישוב ב'. זמן הנסיעה הכולל הוא T. כמה זמן נסעה הרכבת במהירות קבועה?

תשובות סופיות:

(1) א. $4 \frac{m}{sec^2}$ ב. $x(t) = 200m$ ג. $20 \frac{m}{sec}$ ד. קטן.

ה. $t = 4sec$ ו. $V_F \approx 21.91 \frac{m}{sec}$

(2) א. כאשר $0 \leq t \leq 20$ (חלק I), התאוצה חיובית וקבועה, והמיקום הולך וגדל.
 כאשר $20 \leq t \leq 50$ (חלק II), המהירות קבועה (אין תאוצה) והמיקום גדל.
 כאשר $50 \leq t \leq 60$ (חלק III), התאוצה קבועה ושלילית - תאוטה - והמיקום הולך וגדל.

$$a = \begin{cases} 2 \frac{m}{sec^2} & 0 < t < 20 \\ 0 & 20 < t < 50 \\ -4 \frac{m}{sec^2} & 50 < t < 60 \end{cases} \text{ ב.}$$

ג. $V(t=15) = 30 \frac{m}{sec}$, $V(t=40) = 40 \frac{m}{sec}$, $V(t=55) = 20 \frac{m}{sec}$

ד. $x(t=15) = 225m$, $x(t=40) = 1,200m$, $x(t=55) = 1,750m$

(3) א. דני - $V(t) = 14 \frac{m}{sec}$, יוסי - $V(t) = 8t$; גרף;

ב. $t = 1.75sec$; לא.



ג. דני - $x(t) = 64 + 14t$, יוסי - $x(t) = 4t^2$; גרף:



ד. ב- $t = 6.12$, המרחק: $149.82m$.

(4) א. גוף א': תנועה בתאוצה קבועה, האצה. ההתקדמות בכיוון חיובי.
 גוף ב': כאשר $0 < t < 8$, כמו גוף א'. כאשר $8 \leq t$, תנועה במהירות קבועה בכיוון חיובי.

ב. גוף א': $x(t) = \frac{2}{3}t^2$.

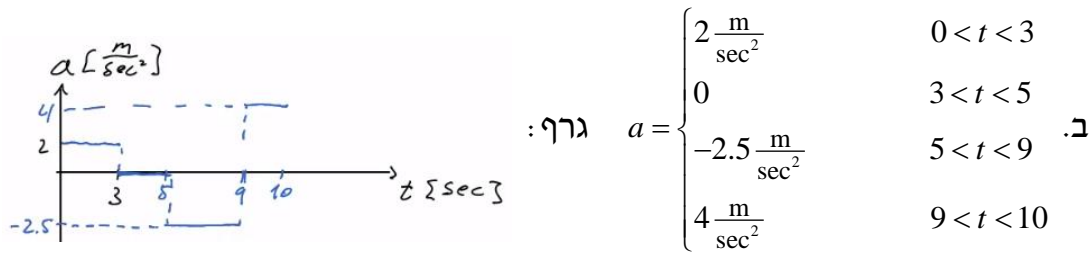
גוף ב': כאשר $0 \leq t \leq 8$, $x(t) = \frac{3}{2}t^2$. כאשר $8 \leq t \leq \infty$, $x(t) = 96 + 24(t-8)$.

ג. כש- $\Delta x(t=3) = 7.5m$, וכש- $\Delta x(t=24) = 96m$. גוף ב' מקדים את א'.

ד. $t = 18sec$ ה. כש- $t = 31.42sec$.

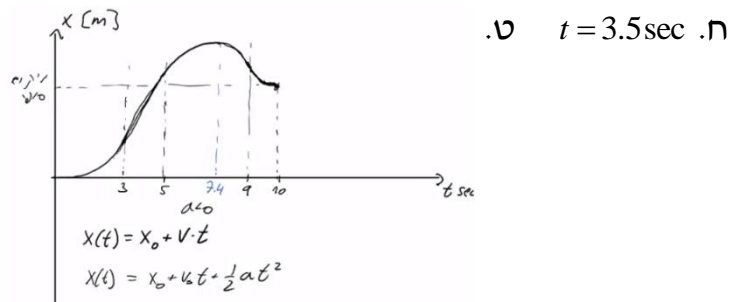
(5) א. לא. ב. כן. ג. לא. ד. לא. ה. לא.

- 6 א. כאשר $0 \leq t \leq 3$ (חלק I), תאוצה קבועה, האצה והתקדמות בכיוון החיובי.
 כאשר $3 \leq t \leq 5$ (חלק II), תנועה במהירות קבועה, התקדמות בכיוון החיובי.
 כאשר $5 \leq t \leq 9$ (חלק III), תאוצה קבועה שלילית.
 תאוטה עד אשר המהירות מתאפסת, ואז מתחילה האצה בכיוון הנגדי.
 התקדמות בכיוון החיובי עד שהמהירות מתאפסת ואז מתחילים לחזור בכיוון הנגדי.
 כאשר $9 \leq t \leq 10$, תאוצה קבועה חיובית, תאוטה. התקדמות בכיוון הנגדי.



ג. בזמן: 7.4 sec ; המרחק: 28.2 m.

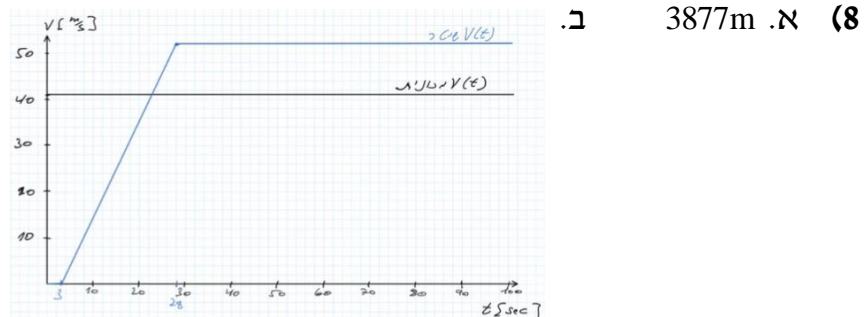
ד. $S = 33.4m$ ה. $\Delta x = 23m$ ו. $\bar{V} = 2.3 \frac{m}{sec}$ ז. $\Delta x = x(t=6) = 25.75m$



7 א. $a = 3 \frac{m}{sec^2}$ ב. $x(t) = 5 + 15(t-2) + \frac{1}{2} 3(t-2)^2$

ג. $x(t=1.65) = 0 ; x(t=0) = -19$

ד. $V(t) = 15 + 3(t-2)$ ה. $V(t=0) = 9 \frac{m}{sec}$



9 $T = 58 sec$

10 $t_2 = \frac{T}{5}$

מהירות רגעית ותאוצה רגעית:

רקע

המהירות היא נגזרת של המיקום לפי הזמן והמיקום הוא אינטגרל על המהירות:

$$v(t) = \frac{dx}{dt}$$

$$x(t) = \int v(t) dt$$

התאוצה היא נגזרת של המהירות והמהירות היא אינטגרל על התאוצה:

$$a(t) = \frac{dv}{dt}$$

$$v(t) = \int a(t) dt$$

- כשעושים אינטגרל צריך להוסיף קבוע, את הקבוע מוצאים מתנאי התחלה.

נגזרות של סינוס וקוסינוס:

$$(\cos x)' = -\sin x$$

$$(\sin x)' = \cos x$$

שאלות:

1) מהירות רגעית ותאוצה רגעית

מיקומו של גוף כתלות בזמן נתון לפי הנוסחה: $x(t) = 3 + t^2 + 2t^3$.

- מצא את מהירות הגוף כתלות בזמן.
- מה המהירות הממוצעת בעשר השניות הראשונות של התנועה? ומה המהירות הממוצעת בעשר השניות הבאות?
- חשב את התאוצה הרגעית. מהי תאוצת הגוף ב- $t = 7 \text{ sec}$?
- חשב את התאוצה הממוצעת בעשר השניות הראשונות של התנועה ובעשר השניות הבאות.

(2) מיקום עם קוסינוס

גוף נע לאורך קו ישר כאשר מיקומו נתון לפי: $x(t) = A \cos(\omega t)$,
(A ו- ω קבועים נתונים).

- א. חשב את המהירות והתאוצה של הגוף כתלות בזמן.
- ב. שרטט את המיקום, המהירות והתאוצה של הגוף כפונקציה של הזמן עבור מרווח הזמן: $0 \leq t \leq 2\pi$ ועבור המקרים: $\omega = 1$, $\omega = 2$, $\omega = 0.5$.
- ג. מתי התאוצה מקסימלית ומתי היא מתאפסת?
- ד. הראה שמתקיים: $a(t) = -\omega^2 x(t)$.
- ה. אם מודדים את t בשניות, מה היחידות של ω ?

תשובות סופיות:

(1) א. $2t + 6t^2$, ב. $210 \frac{m}{sec}$, $1,430 \frac{m}{sec}$, ג. $a(t) = 2 + 12t$, $a(t=7) = 86 \frac{m}{sec^2}$

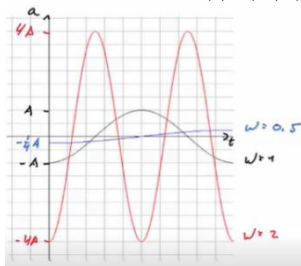
ד. $62 \frac{m}{sec^2}$, $182 \frac{m}{sec^2}$

(2) א. $v(t) = -\omega A \sin(\omega t)$, $a(t) = -\omega^2 A \cos(\omega t)$

ב. מיקום:

מהירות:

תאוצה:



ג. מקסימלית: $t_{max} = \frac{\pi}{\omega}$, מתאפסת: $t = \frac{3\pi}{2\omega}$ או $t = \frac{\pi}{2\omega}$.

ד. הוכחה. ה. $[\omega] = \frac{1}{sec}$

מהירות רגעית ותאוצה רגעית - אינטגרלים:

שאלות:

(1) מצא מהירות ומיקום

גוף נע בתאוצה של: $a = 4t^3$.

- א. מצא את מהירות הגוף כתלות בזמן אם ידוע שהתחיל לנוע ממנוחה.
 ב. מצא את מיקום הגוף כתלות בזמן אם ידוע שהתחיל את תנועתו מ- $x_0 = 2$.

תשובות סופיות:

(1) א. $v(t) = t^4$ ב. $x(t) = \frac{t^5}{5} + 2$

פיזיקה להנדסאי בניין

פרק 4 - וקטורים

תוכן העניינים

38	1. הגדרות סימונים והצגות
43	2. פעולות בין וקטורים
47	3. מכפלה סקלרית
50	4. וקטור יחידה
51	5. מכפלה וקטורית בדו-מימד
53	6. וקטור בשלושה מימדים
55	7. מכפלה וקטורית בשלושה מימדים
56	8. חיבור וחיסור וקטורים בשיטת המקבילית
58	9. תרגילים נוספים

הגדרות סימונים והצגות:

רקע:

וקטור הוא כלי מתמטי המשמש לתיאור גודל פיזיקלי עם כיוון (לדוגמה מהירות או כוח).

וקטור מתארים באמצעות חץ. גודל החץ מתאר את הגודל של הערך הפיזיקאלי וכיוון החץ את כיוונו.

אין משמעות למיקום של הוקטור (בציור) מה שמגדיר את הוקטור זה רק הכיוון והגודל (ניתן להזיז את החץ בציור כל עוד שומרים על הגודל והכיוון וזה מאוד שימושי בחישובים)

הסימון של וקטור הוא בחץ מעל האות \vec{A} (או לפעמים מסמנים באות מודגשת).

הצגה פולרית: הצגה לפי גודל $|\vec{A}|$ וכיוון (זווית θ עם ציר ה- x החיובי).
 הצגה קרטזית (אלגברית): הצגה באמצעות רכיבים.



מעבר מפולרי לקרטזי (פירוק וקטור לרכיבים):

$$A_y = |\vec{A}| \sin \theta$$

$$A_x = |\vec{A}| \cos \theta$$

(ניתן גם להגדיר זווית שאינה עם ציר ה- x החיובי ואז A_x יהיה הניצב שליד הזווית ו- A_y הניצב שמול)

מעבר מקרטזי לפולרי (מציאת גודל וזווית)

$$|\vec{A}| = \sqrt{A_x^2 + A_y^2}$$

$$\tan \theta = \frac{A_y}{A_x}$$

שאלות:

1) הצגה פולרית

צייר את הוקטורים הבאים על גבי מערכת צירים:

שם הוקטור	גודל הוקטור	זווית הוקטור עם ציר ה- x
\vec{A}	$ \vec{A} = 2$	$\theta_A = 30^\circ$
\vec{B}	$ \vec{B} = 4$	$\theta_B = 30^\circ$
\vec{C}	$ \vec{C} = 2$	$\theta_C = 90^\circ$
\vec{D}	$ \vec{D} = 4$	$\theta_D = 120^\circ$
\vec{E}	$ \vec{E} = 2$	$\theta_E = 300^\circ$
\vec{F}	$ \vec{F} = 2$	$\theta_F = -60^\circ$

2) הצגה קרטזית

צייר על מערכת צירים את הוקטורים הבאים, רשום את רכיבי הוקטורים וציין באיזה רביע נמצא כל וקטור:

$$\vec{A} = (1, 2), \vec{B} = (-2, 3), \vec{C} = (-3, -2), \vec{D} = (2, -1)$$

3) מעבר מפולרי לקרטזי

הגודל של כל אחד מהוקטורים הבאים הוא 2. רשום כל אחד מהוקטורים בהצגה הקרטזית שלו (פרק את הוקטורים הבאים לרכיבים):



(4) דרך שנייה לפירוק לרכיבים

הגודל של כל אחד מהוקטורים הבאים הוא 3.
רשום כל אחד מהוקטורים הצגה הקרטזית שלו (פרק את הוקטורים הבאים לרכיבים):



(5) פירוק לרכיבים

באיור הבא, גודלו של הוקטור \vec{A} הוא 4, וגודלו של הוקטור \vec{B} הוא 5.
מצא את הרכיבים הקרטזיים של כל וקטור:



פתור פעם אחת באמצעות הזוויות שנתונות באיור, ופעם אחת באמצעות הזווית עם הכיוון החיובי של ציר ה- x .

(6) מקרטזי לפולרי

מצא את הגודל והכיוון של הוקטורים הבאים:

א. $\vec{A} = (2, -1)$

ב. $\vec{B} = (-0.5, -2)$

(7) מקרטזי לפולרי

שרטט את הוקטורים הבאים על מערכת צירים.
מצא את הגודל והכיוון של כל אחד מהוקטורים.
את הכיוון תאר ע"י הזווית של הוקטור עם ציר ה- x החיובי.

א. $\vec{A} = (2, 3)$

ב. $\vec{B} = (-1, 2)$

ג. $\vec{C} = (0, -3)$

ד. $\vec{D} = (2, -2)$

ה. $E_x = 2$, $|\vec{E}| = 3$ הוקטור ברביע הראשון.

ו. $E_y = -1$, $|\vec{E}| = 3$ הוקטור ברביע השלישי.

תשובות סופיות:

1) ראו שרטוט:



2) ראו שרטוט:



$\vec{A} = (1.88, 0.68)$, $\vec{B} = (1, \sqrt{3})$, $\vec{C} = (-\sqrt{2}, \sqrt{2})$, $\vec{D} = (1, -\sqrt{3})$ (3)

$\vec{C} = (-2.30, -1.93)$.ג. $\vec{B} = (-2.30, 1.93)$.ב. $\vec{A} = \left(\frac{3}{2}, 2.60\right)$.א. (4)

$\vec{D} = (-2.30, -1.93)$.ד.

$\vec{B} = (-4.33, -2.5)$.ב. $\vec{A} = (-3.28, 2.29)$.א. (5)

$\theta_B = 255.96^\circ$; $|\vec{B}| = 2.06$.ב. $\theta_A = -26.57 = 333.43^\circ$; $|\vec{A}| = \sqrt{5}$.א. (6)

$\theta_A = 56.31^\circ$; $|\vec{A}| = \sqrt{13}$



7) א. שרטוט:

$\theta_B = 116.57^\circ$; $|\vec{B}| = \sqrt{5}$



ב. שרטוט:

$$\theta_C = 270^\circ ; |\vec{C}| = 3$$



ג. שרטוט:

$$\theta_D = 315^\circ = -45^\circ ; |\vec{D}| = \sqrt{8}$$



ד. שרטוט:

$$\theta_E = 48.19^\circ ;$$



ה. שרטוט:

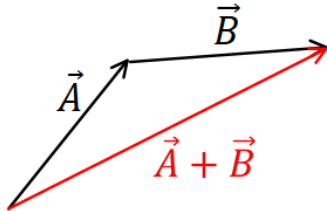
$$\theta_E = 199.47^\circ ;$$



ו. שרטוט:

פעולות בין וקטורים:

רקע:



חיבור וקטורים:
 בצורה גרפית נצמיד ראש לזנב. וקטור הסכום יהיה וקטור מהזנב הראשון לראש הוקטור האחרון.
תמיד ניתן להזיז וקטור במרחב כל עוד שומרים על האורך והכיוון שלו.

בצורה אלגברית נסכום את הרכיבים:

$$\vec{A} + \vec{B} = (A_x + B_x, A_y + B_y)$$

בצורה פולרית, נפרק לרכיבים ונסכום.

כפל/חלוקה בסקלר: בצורה אלגברית, נכפיל/נחלק כל רכיב בסקלר:

$$\vec{B} = \alpha \vec{A} = (\alpha A_x, \alpha A_y)$$

- בצורה פולרית, נכפיל/נחלק את הגודל בסקלר (הכיוון לא משתנה אלא אם הסקלר שלילי ואז הכיוון מתהפך)

שאלות:

(1) חיבור וקטורים לפי סימונים

$$\vec{A} + \vec{B} + \vec{C} + \vec{D} = \vec{E} \quad \text{מצא את:}$$



(2) דוגמה 1

נתונים הוקטורים הבאים:

$$|\vec{A}| = 3, \theta_A = 30^\circ$$

$$|\vec{B}| = 2, \theta_B = -30^\circ$$

$$|\vec{C}| = 3, \theta_C = 180^\circ$$

א. שרטט את הוקטורים על גבי מערכת צירים.

ב. שרטט את גודלן וכיוונו של הוקטור: $\vec{D} = \vec{A} + \vec{B} + \vec{C}$

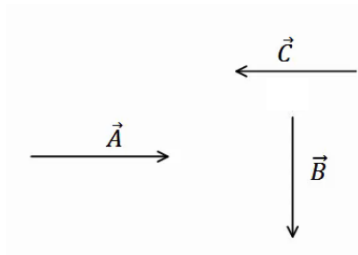
שרטט את הוקטור \vec{D} על אותה מערכת צירים.

3) דוגמה 2



הגודל של הוקטורים באיור הבא הוא: $|\vec{A}| = 5$, $|\vec{B}| = 4$, $|\vec{C}| = 5$.
 מצא את הוקטור השקול (סכום הוקטורים): $\vec{D} = \vec{C} + \vec{A} + \vec{B}$.

4) חיסור לפי סימונים



בציור נתונים הוקטורים: $\vec{A}, \vec{B}, \vec{C}$.
 מצא את: $\vec{D} = \vec{B} - \vec{C} - \vec{A}$.

5) דוגמה 1

נתונים הוקטורים הבאים: $\vec{A} = (3, 5)$, $\vec{B} = (-1, 4)$, $\vec{C} = (0, 2)$.
 מצא את:

א. $\vec{D} = -2\vec{B}$
 ב. $\vec{E} = 3\vec{A} - 2\vec{C} - \vec{B}$
 ג. $\vec{F} = -2(\vec{A} + \vec{B}) + 3\vec{C}$

6) דוגמה 2

גודלם של הוקטורים באיור הבא הם: $|\vec{A}| = 5$, $|\vec{B}| = 4$, $|\vec{C}| = 3$.



א. מצא את גודלו וכיוונו של $\vec{D} = -2\vec{B}$.
 שרטט את \vec{D} על מערכת צירים.
 ב. מצא את גודלו וכיוונו של $\vec{E} = 2\vec{A} - 3\vec{B} - 4\vec{C}$.
 שרטט את \vec{E} על מערכת הצירים.

7) דוגמה 3

גודלו של הווקטור \vec{A} הוא 2 והזווית שהוא יוצר עם ציר ה- x החיובי היא 30° .

- א. שרטט את הווקטור במערכת הצירים.
- ב. מצא את $\vec{B} = 3 \cdot \vec{A}$ ללא פירוק של \vec{A} לרכיבים. שרטט את \vec{B} על אותה מערכת.
- ג. מצא את הרכיבים של \vec{A} .
- ד. חשב שוב את $\vec{B} = 3 \cdot \vec{A}$ הפעם דרך הרכיבים של \vec{A} .
- ה. מצא את גודלו וכיוונו של \vec{B} מהרכיבים שמצאת בסעיף ד'. הראה כי התוצאה זהה לסעיף ב'.

תשובות סופיות:

(1)



ב. $|\vec{D}| = 1.42, \theta_D = 20.60^\circ$

(2) א.



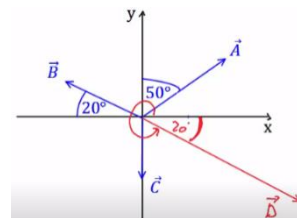
(3) $|\vec{D}| = 3.46, \theta_D = 58.84^\circ$

(4)



(5) א. $\vec{D} = (2, -8)$ ב. $\vec{E} = (10, 7)$ ג. $\vec{F} = (-4, -12)$

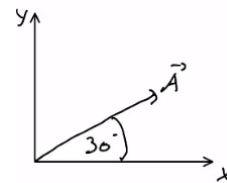
(6) א. $|\vec{D}| = 8, \theta_D = -20^\circ$ ב. $|\vec{E}| = 23.75, \theta_E = 37.23^\circ$



ג. $\vec{A} = (\sqrt{3}, 1)$

ב. $|\vec{B}| = 6, \theta_B = \theta_A = 30^\circ$

(7) א.



ה. ראה סרטון.

ד. $\vec{B} = (3\sqrt{3}, 3)$

מכפלה סקלרית:

שאלות:

(1) דוגמה 1

מצא את תוצאת המכפלה הסקלרית בין הוקטורים הנתונים בכל המקרים הבאים:

א. $\vec{A} = (-1, 2)$, $\vec{B} = (2, 2)$

ב.



(2) דוגמה 2

בדוק עבור זוגות הוקטורים הבאים האם הם מאונכים:

א. $\vec{A} = (1, 4)$, $\vec{B} = (-2, 5)$

ב. $\vec{A} = (1, 4)$, $\vec{B} = (8, -2)$

ג. $\vec{A} = (-1, -2)$, $\vec{B} = (-2, 1)$

ד. שרטט כל זוג וקטורים מאונכים על מערכת צירים.

חשב את זוויות הוקטורים עם הצירים והראה שהזווית בין הוקטורים היא אכן 90 מעלות.

(3) דוגמה 3

נתונים הוקטורים הבאים: $\vec{A} = (-3, 1)$, $\vec{B} = (2, -4)$.

א. מצא את תוצאת המכפלה הסקלרית באמצעות ההצגות הקרטזיות הנתונות.

ב. מצא את הגודל והזווית של כל וקטור.

ג. מצא את המכפלה הסקלרית שוב, הפעם באמצעות הנוסחה של מכפלת הגדלים בקוסינוס הזווית. בדוק כי התוצאה זהה לסעיף א'.

דוגמה 4 (4)

נתונים הוקטורים הבאים : $\vec{A} = (-3, 1)$, $\vec{B} = (2, -4)$

א. הראה כי החישוב של $\vec{A} \cdot \vec{B}$ זהה לחישוב $\vec{B} \cdot \vec{A}$.

ב. הוכח בצורה כללית כי המכפלה הסקלרית היא פעולה קומוטטיבית (הדרכה : רשום את הוקטורים בצורה כללית עם נעלמים).

דוגמה 5 (5)

נתונים הוקטורים הבאים : $\vec{A} = (2, 1)$, $\vec{B} = (-3, 2)$, $\vec{C} = (1, -3)$

חשב את :

א. $\vec{A} \cdot \vec{C}$

ב. $(\vec{A} + \vec{B}) \cdot \vec{C}$

ג. $\vec{A} \cdot \vec{C} + \vec{B} \cdot \vec{C}$

ד. $(\vec{A} \cdot \vec{B}) \cdot \vec{C}$

ה. $\vec{A} \cdot (\vec{B} \cdot \vec{C})$

ו. $(\vec{A} \cdot \vec{B}) \cdot \vec{B}$

ז. $(\vec{A} \cdot \vec{B}) \cdot (\vec{B} \cdot \vec{C})$

דוגמה 6 (6)

נתונים הוקטורים הבאים : $\vec{A} = (-2, 2)$, $\vec{B} = (1, -3)$, $\vec{C} = (1, 5)$

חשב את :

א. $\frac{(\vec{A} \cdot \vec{B}) \vec{B}}{|\vec{B}|^2}$

ב. $\frac{(\vec{B} \cdot \vec{C}) \vec{C}}{|\vec{C}|^2}$

דוגמה 7 (7)

נתונים הוקטורים הבאים : $\vec{A} = (-2, 2)$, $\vec{B} = (1, -3)$, $\vec{C} = (1, 5)$

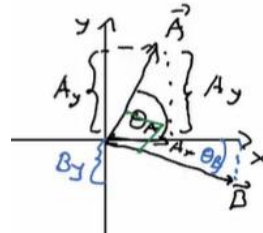
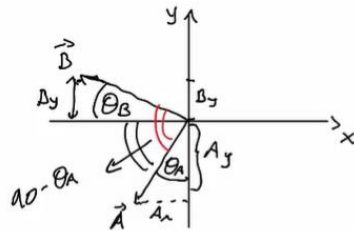
מצא את הזווית בין \vec{A} ל- \vec{B} ובין \vec{B} ל- \vec{C} .

תשובות סופיות:

1 א. 2 ב. -5.13

2 א. לא מאונך ל- \vec{B} . ב. מאונכים. ג. מאונכים.

ד. ב. $\theta_A = 75.96^\circ, \theta_B = 14.04^\circ$. ד. ג. $\theta_A = 26.57^\circ, \theta_B = 26.57^\circ$.



3 א. $\vec{A} \cdot \vec{B} = -10$ ב. $|\vec{A}| = \sqrt{10}, \tilde{\theta}_A = 161.57^\circ, |\vec{B}| = \sqrt{20}, \tilde{\theta}_B = -63.43^\circ$

ג. $\vec{A} \cdot \vec{B} = -10$

4 א. הוכחה. ב. הוכחה.

5 א. -1 ב. -10 ג. -10 ד. (-4,12) ה. (-18,-9)

ו. (12,-8) ז. 36

6 א. (-0.8,2.4) ב. (-0.54,-2.69)

7 $\alpha_{\vec{A}\vec{B}} = 153.43^\circ, \alpha_{\vec{B}\vec{C}} = 150.26^\circ$

וקטור יחידה:

שאלות:

1) דוגמה וקטור יחידה
מצא וקטורי יחידה בכיוון של הוקטורים הבאים:

א. $\vec{A} = (-2, -3)$

ב. $\vec{B} = (3, 4)$

תשובות סופיות:

1) א. $(-0.55, -0.83)$ ב. $(0.6, 0.8)$

מכפלה וקטורית בדו-מימד:

רקע:

מכפלה וקטורית (בדו-מימד):

$$\vec{A} \times \vec{B} = (A_x B_y - A_y B_x) \hat{z}$$

-התוצאה של מכפלה וקטורית היא תמיד וקטור!

נוסחה נוספת רק לגודל של המכפלה:

$$|\vec{A} \times \vec{B}| = |\vec{A}| \cdot |\vec{B}| |\sin \alpha|$$

שאלות:

1) דוגמה – מכפלה וקטורית

נתונים הוקטורים הבאים: $\vec{A} = (-4, 1)$, $\vec{B} = (2, -3)$.

א. חשב את: $\vec{A} \times \vec{B}$ באמצעות ההצגות הקרטזיות הנתונות. מהו גודל המכפלה?

ב. מצא את הגודל והזווית של כל וקטור.

ג. חשב את: $|\vec{A} \times \vec{B}|$ שוב, הפעם באמצעות הנוסחה של מכפלת הגדלים

בסינוס הזווית. בדוק כי התוצאה זהה לסעיף א'.

תשובות סופיות:

10. א. $|\vec{A}| = \sqrt{17}$, $\theta_A = 165.96^\circ$, $|\vec{B}| = \sqrt{13}$, $\theta_B = -56.31^\circ$ ב. $|\vec{A}| = \sqrt{17}$, $\theta_A = 165.96^\circ$, $|\vec{B}| = \sqrt{13}$, $\theta_B = -56.31^\circ$ ג. 10

וקטור בשלושה מימדים:

רקע:



$$0 \leq \varphi \leq 180^\circ$$

$$0 \leq \theta \leq 360^\circ$$

$$A_x = |\vec{A}| \sin \varphi \cos \theta$$

$$A_y = |\vec{A}| \sin \varphi \sin \theta$$

$$A_z = |\vec{A}| \cos \varphi$$

$$|\vec{A}| = \sqrt{A_x^2 + A_y^2 + A_z^2}$$

$$\tan \theta = \frac{A_y}{A_x}$$

$$\cos \varphi = \frac{A_z}{|\vec{A}|} = \frac{A_z}{\sqrt{A_x^2 + A_y^2 + A_z^2}}$$

שאלות:

(1) חישוב וקטור יחידה

נתון הוקטור: $\vec{A}(2,3,4)$.

א. מהו גודלו של הוקטור?

ב. מהו וקטור היחידה של הוקטור \vec{A} ?

(2) כשהסכום מאונך להפרש

הוכיחו שאם סכום של שני וקטורים מאונך להפרשם אזי אורכם שווה.

(3) מציאת וקטור מאונך

נתונים 2 וקטורים: $\vec{A}(1,4,8)$, $\vec{B}(B_x, B_y, 0)$.

מצאו את מרכיבי וקטור \vec{B} אם נתון כי הוא ניצב לוקטור \vec{A} וגודלו 10.

תשובות סופיות:

$$(1) \text{ א. } \sqrt{29} \quad \text{ב. } \left(\frac{2}{\sqrt{29}}, \frac{3}{\sqrt{29}}, \frac{4}{\sqrt{29}} \right)$$

$$(2) \text{ הוכחה בסרטון}$$

$$(3) \left(-4 \frac{10}{\sqrt{17}}, \frac{10}{\sqrt{17}}, 0 \right)$$

מכפלה וקטורית בשלושה מימדים:

שאלות:

(1) מכפלה וקטורית

נתונים הוקטורים: $\vec{A}(1,2)$, $\vec{B}(1,-3)$, $\vec{C}(-1,2,-2)$, $\vec{D}(2,0,1)$

א. מצא את: $\vec{A} \cdot \vec{B}$

ב. מצא את: $\vec{A} \times \vec{B}$

ג. מצא את: $\vec{C} \times \vec{D}$

תשובות סופיות:

(1) א. -5 ב. $\hat{z}(-5)$ ג. $\vec{C} \times \vec{D} = 2\hat{x} - 3\hat{y} - 4\hat{z}$

חיבור וחיסור וקטורים בשיטת המקבילית:

שאלות:

(1) חיבור באמצעות מקבילית

נתונים הוקטורים \vec{A} ו- \vec{B} . גודלו של A הוא 8 והזווית שלו עם ציר ה- x החיובי היא: $\theta_A = 130^\circ$. גודלו של הוקטור B הוא 4 והזווית שלו עם ציר ה- x החיובי היא: $\theta_B = 60^\circ$. שרטט את הוקטורים על מערכת צירים ומצא את: $\vec{A} + \vec{B}$ באמצעות שיטת המקבילית.

(2) חיסור באמצעות מקבילית

נתונים הוקטורים \vec{A} ו- \vec{B} . גודלו של A הוא 8 והזווית שלו עם ציר ה- x החיובי היא: $\theta_A = 130^\circ$. גודלו של הוקטור B הוא 4 והזווית שלו עם ציר ה- x החיובי היא: $\theta_B = 60^\circ$. שרטט את הוקטורים על מערכת צירים ומצא את: $\vec{A} - \vec{B}$ באמצעות שיטת המקבילית.

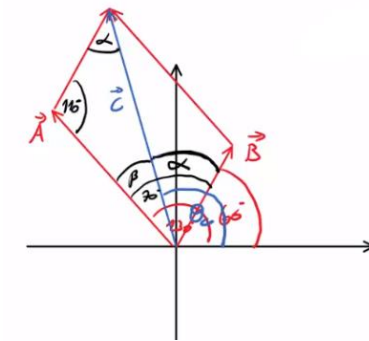
(3) מציאת אורך של שקול

אורכם של שני וקטורים הוא 5 ו-10 ס"מ. הזווית ביניהם היא 30 מעלות. מהו אורכו של הוקטור השקול שלהם (סכום הוקטורים)?

(4) מציאת זווית בין שני וקטורים

נתונים שני וקטורים שאורכם 10 ו-13 מטר. אורך השקול שלהם הוא 20 מטר. מצא את הזווית בין הווקטורים.

תשובות סופיות:

 (1) 108.1° , 10.1

 (2) 159.5° , 7.62

 (3) $a \approx 14.6c.m$

 (4) $\theta = 60^\circ$

תרגילים נוספים:

שאלות:

(1) נתונים הווקטורים הבאים: $\vec{A} = 5, 20^\circ$, $\vec{B} = 2, 150^\circ$, $\vec{D} = 10, 220^\circ$. מצאו את גודל וכיוון הווקטור \vec{C} אם: $\vec{A} + \vec{B} + \vec{C} = \vec{D}$.

(2) באיור הבא נתונים שלושה וקטורים. מצאו את גודל הווקטור \vec{A} ואת גודל הווקטור \vec{B} , אם נתון שגודל הווקטור \vec{C} הוא 50 ו- $\vec{C} = \vec{A} + \vec{B}$.



תשובות סופיות:

(1) $\vec{C} = 14, 221^\circ$

(2) $|\vec{A}| \approx 55$, $|\vec{B}| \approx 53$

פיזיקה להנדסאי בניין

פרק 5 - נפילה חופשית חריקה אנכית

תוכן העניינים

59	1. נפילה חופשית
60	2. זריקה אנכית
62	3. תרגילים

נפילה חופשית:

שאלות:

(1) כדור ברזל קטן

- כדור ברזל קטן משוחרר ממנוחה ממעלי מגדל מאוד גבוה (הזנח את התנגדות האויר).
 א. מצא את מרחקו מנקודת השחרור לאחר 4 שניות.
 ב. מצא את מהירותו באותו הרגע.

(2) תפוח עץ

- תפוח נופל מעץ מגובה של 15 מטרים (הנח שהתפוח נופל ממנוחה והזנח את התנגדות האויר).
 א. מצא את המהירות בה יפגע התפוח בקרקע.
 ב. מצא את המהירות בה יפגע התפוח בראשו של ניוטון, היושב מתחת לעץ.
 הנח שגובה הראש של ניוטון בישיבה הוא 1 מטר.

(3) חסידה מביאה חבילה

- חסידה מפילה חבילה מגובה של 320 מטרים.
 א. מצא את ההעתק שמבצעת החבילה בשניה הרביעית של תנועתה.
 ב. מצא את ההעתק שמבצעת החבילה בשניה האחרונה של תנועתה.

תשובות סופיות:

$$(1) \quad \text{א. } 80\text{m} \quad \text{ב. } 40 \frac{\text{m}}{\text{sec}}$$

$$(2) \quad \text{א. } 17.32 \frac{\text{m}}{\text{sec}} \quad \text{ב. } V_F \approx 16.73$$

$$(3) \quad \text{א. } \Delta y = 35\text{m} \quad \text{ב. } \Delta y = 75\text{m}$$

זריקה אנכית:

שאלות:

(1) דנה גרה מעל צחי

- דנה גרה בבניין קומות גבוה. חברה צחי גר שלוש קומות מתחתיה.
 דנה זורקת מהחלון כדור במהירות של $5 \frac{\text{m}}{\text{sec}}$ כלפי מטה לעבר החלון של צחי.
 גובה כל קומה הוא 3 מטרים.
 א. מתי יעבור הכדור את חלונו של צחי?
 ב. מה תהיה מהירות הכדור באותו הרגע?
 ג. מה תהיה מהירות הכדור שתי קומות מתחת לחלונו של צחי?

(2) דני זורק כדור מחלון גבוה

- דני זורק כדור כלפי מעלה מחלון ביתו הנמצא בגובה 105 מטרים מעל הקרקע (בניין גבוה). מהירות הכדור ישר אחרי הזריקה היא 20 מטר לשניה.
 סמן את כיוון הציר החיובי כלפי מעלה ואת ראשית הצירים בנקודת הזריקה.
 א. רשום נוסחאות מקום-זמן ומהירות-זמן עבור הכדור.
 ב. הכן טבלה ורשום בה את הערכים של המיקום והמהירות ב-6 השניות הראשונות.
 ג. צייר את מיקום הכדור בכל שנייה ב-6 השניות.
 ד. מתי יפגע הכדור בקרקע?
 ה. חזור על סעיפים א' ו-ד' במקרה שבו ראשית הצירים בקרקע.

(3) רועי קופץ לבריכה

- רועי קופץ לבריכה ממקפצה בגובה 10 מטרים.
 מהירותו מיד לאחר הניתוק מהמקפצה היא 2 מטר לשניה כלפי מעלה.
 א. מתי מגיע רועי לשיא הגובה בקפיצה?
 ב. מהו שיא הגובה?
 ג. מהי המהירות שבה פוגע רועי במים?
 ד. כמה זמן עבר מרגע הקפיצה עד לרגע בו פגע רועי במים?

תשובות סופיות:

$$V(y=15) \approx 18.03 \frac{\text{m}}{\text{sec}} \quad \text{ג.} \quad V(t=0.93) = 14.3 \frac{\text{m}}{\text{sec}} \quad \text{ב.} \quad 0.93 \text{sec} \quad \text{א.} \quad (1)$$

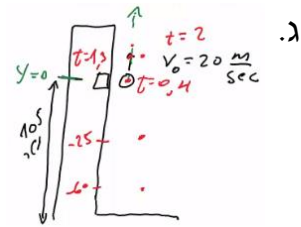
$$V(t) = 20 - 10t \quad \text{מהירות-זמן} \quad ; \quad y(t) = 20t - 5t^2 \quad \text{מקום-זמן} \quad ; \quad (2)$$

ב.

זמן (בשניות)	מיקום (במטרים)	מהירות (מטרים לשנייה)
1	15	10
2	20	0
3	15	-10
4	0	-20
5	-25	-30
6	-60	-40

ה. (א) מקום-זמן: $y(t) = 105 + 20t - 5t^2$. 7sec . ד.

מהירות-זמן: $V(t) = 20 - 10t$. 7sec (ד)



$$t \approx 1.63 \text{sec} \quad \text{ד.} \quad -14.28 \frac{\text{m}}{\text{sec}} \quad \text{ג.} \quad 0.2 \text{m} \quad \text{ב.} \quad t = 0.2 \text{sec} \quad \text{א.} \quad (3)$$

תרגילים:

שאלות:

- (1) אבן נזרקת מגג בניין**
 מגג בניין שגובהו 120 מטר נזרקת אבן כלפי מעלה, במהירות התחלתית שגודלה 20 מטר לשניה.
 א. כעבור כמה זמן תמצא האבן בשיא גובה התנועה?
 ב. מה הגובה המקסימלי אליו מגיעה האבן?
 ג. מהי מהירות האבן כאשר היא פוגעת בקרקע? (הקפד על הסימן).
- (2) חלק ניתק מטיל**
 טיל משוגר אנכית כלפי מעלה, ממנוחה, בתאוצה קבועה של 6 מטר לשניה בריבוע. כאשר הטיל בגובה של 300 מטר ניתק ממנו חלק.
 א. מהי מהירות הטיל ברגע ניתוק החלק?
 ב. מהו שיא הגובה, ביחס לקרקע, אליו מגיע החלק שניתק?
 ג. לאחר כמה זמן מרגע השיגור יפגע החלק בקרקע?
 ד. מהי מהירות החלק ברגע פגיעתו בקרקע?
- (3) כדור נזרק מלמעלה וגוף נזרק מלמטה**
 כדור נזרק כלפי מטה מראש בניין שגובהו 80 מטר. מהירותו ההתחלתית של הכדור היא 15 מטר לשניה. באותו הרגע, נזרק גוף שני מתחתית הבניין כלפי מעלה. מהירותו ההתחלתית של הגוף השני היא 40 מטר לשניה.
 א. רשום נוסחת מקום-זמן עבור כל גוף.
 ב. האם הגוף השני יעבור את גובה הבניין?
 ג. היכן ביחס לרצפת הבניין יחלפו הגופים אחד ליד השני?
 ד. רשום נוסחת מהירות-זמן לכל גוף.
 ה. מה תהיה מהירות כל גוף ברגע המפגש?
 ו. מהי מהירות הפגיעה בקרקע של כל גוף?
 ז. שרטט גרף מהירות-זמן וגרף מיקום-זמן לכל גוף.

- (4) גוף נזרק אנכית מגג בניין**
 גוף נזרק אנכית כלפי מעלה מגג בניין שגובהו 40 מטר.
 מהירותו ההתחלתית של הגוף היא 30 מטר לשנייה.
 בחר ציר y , שראשיתו בקרקע וכיוונו החיובי כלפי מעלה.
- א. רשום את הפונקציות: מקום-זמן, מהירות-זמן ותאוצה-זמן, של הגוף.
 ב. ערוך טבלה של מהירותו ומיקומו בזמנים: $t = 0, 1, 2, 3, 4, 5 \text{ sec}$.
 ג. שרטט גרפים עבור שלושת הפונקציות שחישבת בסעיף א'.
- (5) כדור מלמעלה וכדור מלמטה מתעכב**
 כדור נופל מגובה של 70 מטרים בנפילה חופשית.
 שלוש שניות לאחר מכן נזרק כדור נוסף מהקרקע במהירות התחלתית v_0 .
- א. רשום נוסחת מקום-זמן לכל גוף כפונקציה של v_0 .
 ב. מה צריך להיות v_0 על מנת שהכדורים לא יחלפו זה על פני זה?
 ג. רשום נוסחת מקום – זמן לכל גוף, בהנחה שהערך של v_0 הוא הערך המקסימלי שמקיים את התנאי של סעיף ב'.
 ד. מה תהיה מהירות כל גוף בפגיעה בקרקע?
 ה. שרטט גרף מהירות – זמן לשתי האבנים על אותה מערכת צירים.
- (6) כדור פורח**
 כדור פורח עולה במהירות קבועה של 15 מטרים לשנייה כלפי מעלה.
 בגובה של 150 מטרים הכדור משחרר שק חול.
 מצא כמה זמן ייקח לשק החול להגיע לקרקע.
 (רמז: מהירות הכדור לא נתונה ללא סיבה)
- (7) אבן אחרי אבן**
 אבן משוחררת ממנוחה מגובה של 60 מטרים. שתי שניות לאחר מכן נזרקת אבן נוספת כלפי מטה מאותו הגובה.
 באיזו מהירות יש לזרוק את האבן, על מנת ששתי האבנים יגיעו לקרקע באותו הזמן?
- (8) אדם משחרר כדור מתוך מעלית****
 מעלית עולה מגובה הקרקע במהירות קבועה. בזמן T_1 אדם הנמצא במעלית משחרר כדור מתוך המעלית דרך חור שברצפת המעלית.
 הכדור מגיע לקרקע כעבור T_2 שניות.
 מצאו את גובה המעלית h בזמן T_1 .
 נתונים: T_1 ו- T_2 .

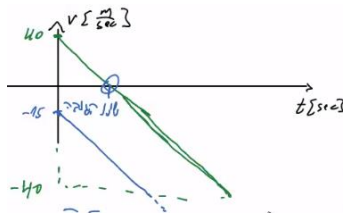
9) ילד זורק כדור בקפיצה**

ילד מנסה לזרוק כדור לתקרה של הכיתה אך אינו מצליח להגיע עד לתקרה. המורה לפיזיקה שהבחין בניסיונותיו של הילד הציע לילד שיזרוק את הכדור תוך כדי קפיצה בכיוון מעלה.

- א. האם המורה צודק? לאיזה גובה יגיע הכדור אם הילד קופץ ומיד זורק את הכדור כלפי מעלה? הניחו שמהירות הקפיצה של הילד היא v_1 ומהירות הזריקה של הכדור v_2 ביחס לילד היא אותו הדבר. הניחו שזריקת הכדור לא משפיעה על הילד.
- ב. בטאו את ההעתק של הילד ושל הכדור כפונקציה של הזמן בו הילד זורק את הכדור.

תשובות סופיות:

- (1) א. 2sec ב. 20m ג. 25.8sec ד. 7.29sec
- (2) א. $60 \frac{m}{sec}$ ב. 480m ג. 25.8sec ד. $\approx -98 \frac{m}{sec}$
- (3) א. גוף 1: $y_1(t) = 80 + (-15)t - 5t^2$, גוף 2: $y_2(t) = 40t - 5t^2$ ב. 80m
 ג. $y_2(t=1.45) \approx 47.74m$
 ד. גוף 1: $v_1(t) = -15 - 10t$, גוף 2: $v_2(t) = 40 - 10t$
 ה. גוף 1: $-29.6 \frac{m}{sec}$, גוף 2: $25.4 \frac{m}{sec}$. גוף 1: $-42.72 \frac{m}{sec}$, גוף 2: $-40 \frac{m}{sec}$
 ז. מיקום-זמן (גוף 1 בכחול, גוף 2 בירוק): מהירות-זמן:



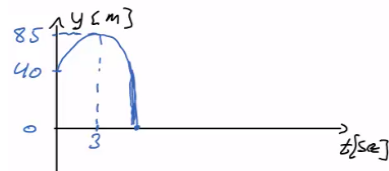
- (4) א. מקום-זמן: $y(t) = 40 + 30t - 5t^2$, מהירות-זמן: $v(t) = 30 - 10t$
 תאוצה-זמן: $a = -10$
 ב.

מקום (במטרים)	מהירות (מטרים לשנייה)	זמן (בשניות)
40	30	0
65	20	1
80	10	2
85	0	3
80	-10	4
65	-20	5

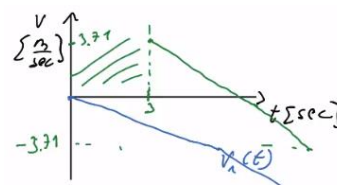
תאוצה-זמן:

מהירות-זמן:

ג. מקום-זמן:



- (5) א. כדור 1: $y_1(t) = 70 - 5t^2$, כדור 2: $y_2(t) = 0 + v_0(t-3) - 5(t-3)^2$
 ב. $v_0 \leq 3.71$ ג. כדור 1: $v_1(t) = -10t$, כדור 2: $v_2(t) = 3.71 - 10(t-3)$
 ד. כדור 1: $v_1(t=3.74) = -37.4 \frac{m}{sec}$, כדור 2: $v_2(t=3.74) \approx -3.69 \frac{m}{sec}$



ה. שרטוט:

$$. t \approx 7.18 \text{ sec} \quad (6)$$

$$. v_0 \approx 33.8 \frac{\text{m}}{\text{sec}} \quad (7)$$

$$. h = \frac{gT_2^2}{2 \left(1 + \frac{T_2}{T_1} \right)} \quad (8)$$

$$. y = \frac{(v_1 + v_2)^2}{2g}, \text{ א. המורה צודק, ב. ילד: } v_1 \cdot t - \frac{1}{2}gt^2, \text{ כדור: } v_2 t_0 - \frac{(v_1 + v_2)^2}{2g} \quad (9)$$

פיזיקה להנדסאי בניין

פרק 6 - קינמטיקה - תנועה במישור

תוכן העניינים

1. תנועה במישור 67

תנועה במישור:

שאלות:

(1) דוגמה 1

גוף נע במישור, כך שמיקומו בציר ה- x כתלות בזמן הוא: $x(t) = 2t$,

ומיקומו בציר ה- y כתלות בזמן הוא: $y(t) = 3t^2$.

- שרטט על גבי מערכת צירים דו מימדית את מיקום הגוף ב- $t = 0, 1, 2, 3$ sec.
- רשום את הערך של וקטור מיקום הגוף בכל אחד מן הרגעים, ושרטט את וקטור המיקום בכל רגע על מערכת הצירים.
- רשום נוסחה לוקטור המיקום כתלות בזמן.

(2) דוגמה 2

גוף נע במישור, כך שמיקומו בציר ה- x כתלות בזמן הוא: $x(t) = 4 + 3t$,

ומיקומו בציר ה- y כתלות בזמן הוא: $y(t) = 2t^2$.

- רשום את וקטור המיקום כתלות בזמן ומצא את מיקום הגוף ב- $t = 1, 2$ sec.
- רשום את ההעתק של הגוף בחמש השניות הראשונות של התנועה.
- מצא את ההעתק שביצע הגוף מ- $t = 2$ sec עד $t = 4$ sec.

(3) דוגמה 3

גוף נע במישור, כך שמיקומו כתלות בזמן בציר ה- x הוא: $x(t) = 2t - 3$,

ומיקומו בציר ה- y כתלות בזמן הוא: $y(t) = t^2$.

- מצא את וקטור המיקום של הגוף כתלות בזמן.
- מצא את ההעתק שביצע הגוף בין $t = 3$ sec ל- $t = 5$ sec.
- מצא את המהירות הממוצעת במרווח הזמן של סעיף ב'.

(4) גוף נזרק אופקית מגובה רב

גוף נזרק אופקית במהירות של 10 מטר לשניה מגובה רב. מה יהיו מיקומו, ביחס לנקודת הזריקה, ומהירותו, לאחר 4 שניות?

5) גוף נזרק אופקית מגג בניין

גוף נזרק אופקית מגג בניין שגובהו 40 מטר.

א. מתי יפגע הגוף בקרקע?

ב. היכן יפגע הגוף בקרקע אם מהירות הזריקה היא 15 מטר לשנייה?

ג. מהו גודל מהירות הגוף בזמן הפגיעה בקרקע ומהי כיוונה?

6) חבילת סיוע לכפר

מטוס טס במהירות קבועה של 200 מטר לשנייה בגובה של 3000 מטר. המטוס רוצה לשחרר חבילת סיוע לכפר הנמצא מתחתיו.

א. מצא את המרחק האופקי מהכפר שבו צריך

המטוס לשחרר את החבילה על מנת שתנחת

בדיוק 10 מטר לפני הכפר.

ב. מהי הזווית בה רואה המטוס את הכפר באותו רגע?


7) משוואת מסלול

מצא את משוואת המסלול ושרטט את המסלול על מערכת צירים עבור המסלול

$$\text{הבא: } x(t) = \sqrt{3+t^2}, y(t) = \sqrt{7-t^2}$$

הנח ש- x ו- y תמיד חיוביים.

8) זריקה משופעת

גוף נזרק במהירות של 40 מטר לשנייה בזווית של 30 מעלות ביחס לציר האופקי.

א. מצא את מיקום ומהירות הגוף ב- $t = 2\text{sec}$.

ב. מתי פוגע הגוף בקרקע?

ג. מהו המרחק האופקי בו פוגע הגוף בקרקע?

ד. מהי מהירות הגוף ברגע הפגיעה?

9) כדור נבעט מגבעה

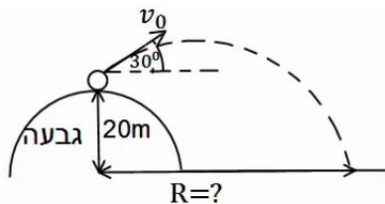
כדור נבעט מגבעה בגובה 20 מטר. הכדור נבעט במהירות של 28 מטר לשנייה ובזווית של 30 מעלות.

א. מתי יפגע הכדור בקרקע?

ב. מהו המרחק האופקי של הכדור, מנקודת

הבעיטה, ברגע הפגיעה בקרקע?

ג. מהי מהירות הכדור ברגע הפגיעה?



**10) דן יורה חץ על עץ**

דן יורה חץ מגובה של 2 מטרים לעבר עץ הנמצא במרחק של 8 מטרים. מהירות היציאה של החץ מהקשת היא 30 מטר לשנייה. מצא באיזה גובה יפגע החץ בעץ, אם הזווית שבה יורה דן את החץ היא 15 מעלות.

11) דני מחליק במגלשה

דני מחליק במגלשת מים. סוף המגלשה נמצא בגובה 2 מטרים מעל הבריכה ובזווית של 30 מעלות מתחת לאופק. בהנחה שדני יוצא מהמגלשה במהירות של 10 מטרים לשנייה, מהו המרחק האופקי אותו יעבור עד הפגיעה במים? מהי מהירותו בפגיעה במים?

**12) כדור מתגלגל מגג משופע**

כדור מתגלגל מגג בניין משופע. הכדור מתחיל תנועתו ממנוחה מגובה של 2 מטרים מקצה הגג, ששיפועו הוא 30 מעלות מתחת לאופק. נתון כי תאוצת הכדור בכיוון תנועתו על הגג היא 5 מטרים לשנייה בריבוע. מצא את המרחק האופקי מקצה הגג בו יפגע הכדור בקרקע.

13) תנועת כדור עם רוח נגדית

כדור נבעט מהקרקע במהירות של 20 מטרים לשנייה ובזווית של 45 מעלות מהקרקע. רוח נגדית גורמת לכדור תאוצה בכיוון האופקי של 2 מטרים לשנייה בריבוע (בנוסף לתאוצת הכובד).

א. מצא את מיקום הכדור ומהירותו ב- $t = 2 \text{ sec}$.

ב. מהו המרחק בו פוגע הכדור בקרקע?

ג. מהו הגובה המקסימלי אליו הגיע הכדור?

ד. מהו המרחק האופקי המקסימלי אליו הגיע הכדור?

14) מסירה בפוטבול

במשחק הפוטבול הרכז האחורי זורק כדור בזווית של 45 מעלות ביחס לקרקע ובמהירות של 30 מטרים לשנייה. שחקן הקבוצה הנמצא 15 מטרים קדימה מהרכז האחורי רץ במהירות של 5 מטרים לשנייה. השחקן רואה את הכדור ומתחיל להאיץ בתאוצה קבועה. מהי התאוצה הדרושה לשחקן כך שיוכל לתפוס את הכדור בדיוק בגובה בו הוא נזרק? האם סימן התאוצה יכול להיות שלילי? מה המשמעות של תאוצה כזו?

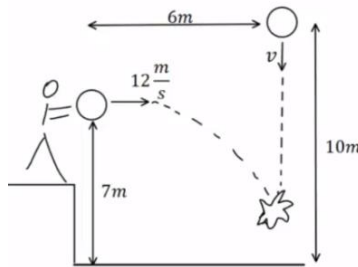
(15) מטוס מטיל פצצה על טנק שנע

מטוס טס בכיוון אופקי במהירות של 360 km/hr קמ"ש. טנק אויב הנמצא במרחק אופקי של 3 km ממנו נע במהירות 18 km/hr קמ"ש כלפי המטוס. כעבור 10 שניות הטייס מבחין בטנק ומשחרר פצצה.

א. חשבו את הזמן מהרגע שבו שוחררה הפצצה ועד לרגע פגיעתה בטנק.

ב. מהו גובה המטוס מעל פני הקרקע?

ג. מהי מהירות הפצצה (גודל וכיוון) ברגע פגיעתה בטנק?

(16) כדור נזרק אופקית פוגע בכדור שנזרק אנכית

כדור נזרק אנכית כלפי מטה מגובה של 10 m מטרים ובמהירות v לא ידועה. באותו הרגע ובמרחק אופקי של 6 m מטרים נזרק כדור נוסף זריקה אופקית, מגובה 7 m מטרים ובמהירות של 12 m/s מטר לשניה.

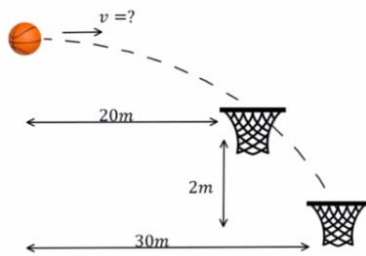
הכדורים מתנגשים באוויר בגובה לא ידוע.

א. מהו הזמן בו הכדורים מתנגשים?

ב. מהי המהירות בה נזרק הכדור הראשון?

ג. מהו הגובה שבו נפגשים הכדורים?

ד. מהי מהירות הכדור השני ברגע פגיעתו בכדור הראשון (גודל וכיוון)?

(17) כדורסל עובר דרך שני סלים

כדורסל נזרק אופקית במהירות התחלתית לא ידועה ובגובה לא ידוע. הכדור עובר דרך שני סלים (ניתן להניח שהסלים ללא רשת והכדור לא פוגע בטבעת כך שהמעבר דרך הסלים לא משנה את המסלול). הסל הראשון ממוקם 20 m מטר מנקודת הזריקה של הכדור והסל השני 30 m מטר מנקודת הזריקה של הכדור ו- 2 m מטר מתחת לסל הראשון.

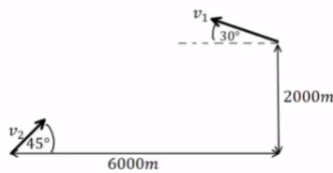
א. מהי המהירות ההתחלתית של הכדור?

ב. מאיזה גובה מעל לסל העליון נזרק הכדור?

ג. כמה זמן חלף מהרגע בו נזרק הכדור ועד לרגע בו הגיע לסל השני?

18) כיפת ברזל מיירת קאסם

טייל קאסם נורה לעבר עמדה של כיפת ברזל. המכ"ם של הכיפה מזהה את הטייל כשהוא נמצא בגובה 2000 מטר ובמרחק אופקי של 6000 מטר ממוקום של עמדת הכיפה. ברגע הגילוי לטייל זווית של 30 מעלות עם האופק. המחשב של כיפת ברזל מתריע כי לפי חישוב המסלול של הטייל הוא הולך לפגוע ישירות בעמדה. הנח שטייל הקאסם נע ללא מנוע (כלומר, כמו פגז בתנועה בליסטית).



- א. מהי מהירות הטייל ברגע הגילוי?
ברגע הגילוי נורה טייל מיירט לעבר טייל הקאסם.
הטייל המיירט נורה בזווית של 45 מעלות.
- ב. מה צריכה להיות מהירותו ההתחלתית של הטייל המיירט בשביל שיפגע בטייל הקאסם (הנח שתנועת הטייל המיירט היא גם ללא מנוע)?
- ג. מתי מתרחשת הפגיעה?
- ד. באיזה גובה מתרחשת הפגיעה?

תשובות סופיות:

(1) א.



ב. $\vec{r}_0(t=0) = (0, 0)$, $\vec{r}_1(t=1) = (2, 3)$, $\vec{r}_2(t=2) = (4, 12)$, $\vec{r}_3(t=3) = (6, 27)$

ג. $\vec{r} = (2t, 3t^2) = 2t\hat{x} + 3t^2\hat{y}$

(2) א. הנוסחה: $\vec{r}(t) = (4 + 3t, 2t^2)$, מיקום הגוף: $\vec{r}(t=1) = (7, 2)$, $\vec{r}(t=2) = (10, 8)$

ב. $\Delta\vec{r} = (15, 50)$ ג. $\Delta\vec{r} = (6, 24)$

(3) א. $\vec{r} = (2t - 3)\hat{x} + t^2\hat{y}$ ב. $\Delta\vec{r} = (4, 16)$ ג. $\vec{v} = (2, 8)$

(4) מיקום: $\vec{r}(t=4) = (40, 80)$, מהירות: $\vec{v}(t=4) = (10, 40)$

(5) א. $t = \sqrt{8} \approx 2.83 \text{ sec}$ ב. $x(t = \sqrt{8}) = 15 \cdot \sqrt{8} \approx 42.43 \text{ m}$

ג. גודל: $|\vec{v}| \approx 32.02 \frac{\text{m}}{\text{sec}}$, כיוון: $\theta \approx 62.06^\circ$

(6) א. $4,908.98 \text{ m}$ ב. $\theta = 31.38^\circ$

(7) משוואה: $y(x) = \sqrt{10 - x^2}$, שרטוט:



(8) א. מיקום: $x(t=2) = 69.28 \text{ m}$, $y(t=2) = 20 \text{ m}$, מהירות: $\vec{v} = (34.64, 0)$

ב. $t = 4 \text{ sec}$ ג. $x(t=4) = 138.56 \text{ m}$ ד. $\vec{v} = (34.64, -20)$

(9) א. $t \approx 3.84 \text{ sec}$ ב. $x(t=3.84) = 93.12 \text{ m}$ ג. $\vec{v} = (24.25, -24.4)$

(10) $y(t=0.28) \approx 3.78$

(11) המרחק: $x(t) = 2.68 \text{ m}$, המהירות: $\vec{v} = (8.66, 8.1)$

(12) $x(t=0.82) \approx 4.49 \text{ m}$

(13) א. מיקום: $x(t=2) = 24.28 \text{ m}$, $y(t=2) = 8.28 \text{ m}$

מהירות: $v_x(t=2) = 10.14 \frac{\text{m}}{\text{sec}}$, $v_y(t=2) = -5.86 \frac{\text{m}}{\text{sec}}$ ב. $x(t=2.83) \approx 32.01 \text{ m}$

ג. $y(t=1.41) \approx 10 \text{ m}$ ד. $x_{\text{max}} = 32.01 \text{ m}$

(14) התאוצה: $a \approx 5.99 \frac{\text{m}}{\text{sec}^2}$, כן, יכול להיות שלילי. המשמעות היא תאוצה,

כלומר על השחקן להאט על מנת לתפוס את הכדור בדיוק בגובה הזריקה.

(15) א. $t \approx 18.57 \text{sec}$ ב. $h \approx 1724 \text{m}$ ג. $211 \frac{\text{m}}{\text{sec}}$, -61.7°

(16) א. $t = 0.5 \text{sec}$ ב. $v = 6 \frac{\text{m}}{\text{sec}}$ ג. 5.75m

ד. $13 \frac{\text{m}}{\text{sec}}$, -22.6°

(17) א. $v = \sqrt{1250} \frac{\text{m}}{\text{sec}}$ ב. $h = 1.6 \text{m}$ ג. $t_2 \approx 0.849 \text{sec}$

(18) א. $v_1 \approx 210 \frac{\text{m}}{\text{sec}}$ ב. $v_2 \approx 353 \frac{\text{m}}{\text{sec}}$ ג. $t_0 \approx 13.9 \text{sec}$ ד. 2493m

פיזיקה להנדסאי בניין

פרק 7 - תנועה יחסית

תוכן העניינים

74 1. תנועה יחסית

תנועה יחסית:

שאלות:

(1) מדרגות נעות

כאשר אדם עומד על מדרגות נעות בחנות, הוא מגיע לקומה הרצויה תוך 50 שניות. יום אחד, המדרגות הנעות מתקלקלות והאדם צריך לעלות אותן ברגל בכוחות עצמו, כאשר הוא נע במלוא היכולת שלו, הוא מצליח להגיע לקומה הרצויה תוך 80 שניות. למחרת, המדרגות הנעות עובדות כרגיל, אך האדם מחליט לרוץ בהן במלוא יכולתו בכל זאת.

- תוך כמה זמן יגיע לקומה הרצויה?
- האדם מנסה עתה לרדת חזרה לקומה המקורית במדרגות העולות (אלה בהן הוא עלה קודם). האם הוא יכול להצליח בכך?
אם כן תוך כמה זמן יגיע לקומה המקורית?

(2) מכונית ביחס לאוטובוס

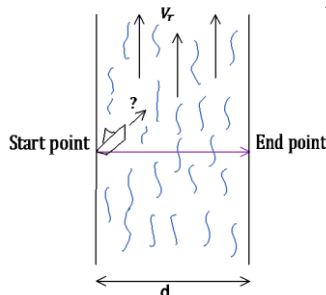
- מכונית נוסעת במהירות של 30 מטר לשנייה בכיוון ציר ה- x .
- אוטובוס נוסע במהירות של 50 מטר לשנייה בכיוון ציר ה- x .
- מצא את המהירות היחסית בין האוטובוס למכונית.
- מצא את הזווית בה האוטובוס יראה את המכונית נוסעת.

(3) גשם על שמשות מכונית

נהג הנוסע במהירות 100 קמ"ש רואה טיפות גשם נמרחות על השמשה הצדדית של המכונית בכיוון הפוך לכיוון הנסיעה ובזווית של 45 מעלות עם הציר האנכי לכיוון הנסיעה. נהג אחר הנוסע במהירות 70 קמ"ש רואה את טיפות הגשם בזווית 30 מעלות עם אותו הציר. מצא את מהירות הטיפות ביחס לקרקע (גודל וכיוון).

(4) סירה בנהר

נהר זורם צפונה במהירות V_r . יוסי נמצא בגדה המערבית ורוצה להשיט סירה לרוחב הנהר. מהירות הסירה היא V_{br} יחסית לנהר. יוסי מעוניין להגיע אל הגדה הנגדית בדיוק מזרחית לנקודת מוצאו. נתון כי רוחב הנהר d .



- באיזה כיוון הוא יהיה חייב להשיט את הסירה?
- מה מהירות הסירה יחסית לאדמה?
- כמה זמן תארך דרכו?

5) כדור נזרק במעלית

מרצפת מעלית הנמצאת במנוחה נזרק כלפי מעלה במהירות התחלתית לא ידועה. הכדור עובר ליד שעון עצר, המחובר למעלית, ונמצא בגובה 2 מטרים מרצפת המעלית. שעון העצר מופעל ברגע שהכדור חולף לידו בפעם הראשונה ומפסיק ברגע שהכדור חולף לידו בפעם השנייה (בדרכו למטה). השעון מדד זמן של 0.5 שניות.

- א. מהו זמן התנועה של הכדור מרגע הזריקה עד לפגיעה ברצפת המעלית?
- ב. מהי הדרך אותה עשה הכדור ביחס למעלית וביחס לכדה"א עד אשר הגיע לשעון בפעם השנייה?
- ג. חוזרים על הניסוי, אבל כעת המעלית נעה (מלפני זריקת הכדור) במהירות קבועה כלפי מעלה של $4 \frac{\text{m}}{\text{sec}}$. הזמן שמודד השעון הוא שוב 0.5 שניות. מהו זמן התנועה של הכדור מרגע הזריקה ועד לפגיעה ברצפת המעלית?
- ד. מהי הדרך אותה עשה הכדור ביחס למעלית וביחס לכדה"א עד אשר הגיע לשעון בפעם השנייה?
- ה. מהי מהירות הכדור ביחס לכדה"א ברגע הפגיעה ברצפת המעלית?

6) כדור נזרק במעלית מאיזה

מעלית נעה בתאוצה קבועה כלפי מעלה של $2 \frac{\text{m}}{\text{sec}^2}$.

- ברגע שמהירות המעלית היא $4 \frac{\text{m}}{\text{sec}}$ נזרק מרצפת המעלית כדור כלפי מעלה במהירות התחלתית לא ידועה.
- הכדור עובר ליד שעון עצר המחובר למעלית ונמצא בגובה 1 מטר מרצפת המעלית. שעון העצר מופעל ברגע שהכדור חולף לידו בפעם הראשונה ומפסיק ברגע שהכדור חולף לידו בפעם השנייה (בדרכו למטה). השעון מדד זמן של 0.5 שניות.
- א. מהו הזמן עד לפגיעת הכדור ברצפת המעלית?
 - ב. מהי הדרך הכוללת שעבר הכדור ביחס למעלית עד אשר עבר ליד השעון בפעם השנייה?
 - ג. מהי הדרך הכוללת שעבר הכדור ביחס לכדה"א עד אשר עבר ליד השעון בפעם השנייה?
 - ד. מהי מהירות הכדור יחסית לכדה"א ברגע הפגיעה ברצפת המעלית?

תשובות סופיות:

$$(1) \quad t = 30.8 \text{ sec} \quad \text{א.} \quad \text{ב. לא.}$$

$$(2) \quad v_2' = \left(-24.01 \frac{\text{m}}{\text{sec}}, 15 \frac{\text{m}}{\text{sec}} \right) \quad \text{א.} \quad \text{ב. } \theta_2' = 148^\circ$$

$$(3) \quad \text{מהירות: } V_x = 29.21 \frac{\text{km}}{\text{hr}}, V_y = -70.79 \frac{\text{km}}{\text{hr}}, \text{ גודל וכיוון: ראה סרטון.}$$

$$(4) \quad \sin \theta = -\frac{V_r}{V_{br}} \quad \text{א.} \quad \text{ב. } V_{bx} = \sqrt{V_{br}^2 - V_r^2} \quad \text{ג. } t = \frac{d}{\sqrt{V_{br}^2 - V_r^2}} \quad \text{ד.}$$

$$(5) \quad t = 1.36 \text{ sec} \quad \text{א.} \quad \text{ב. } S = 2.62 \text{ m} \quad \text{ג. } t = 1.36 \text{ sec} \quad \text{ד. } S = 5.72 \text{ m}$$

$$\text{ה. } v_1 = -2.8 \frac{\text{m}}{\text{sec}}$$

$$(6) \quad t = 0.96 \text{ sec} \quad \text{א.} \quad \text{ב. } S = 2.76 \text{ m} \quad \text{ג. } S = 4.46 \text{ m} \quad \text{ד. } v_1 = 1.6 \frac{\text{m}}{\text{sec}}$$

פיזיקה להנדסאי בניין

פרק 8 - תרגילים לחזרה עד לחלק זה

תוכן העניינים

77 1. תרגילים

תרגילים לחזרה עד לחלק זה:

שאלות:

(1) חללית ללא טייס

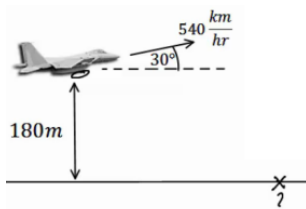
- חללית ללא טייס משוגרת מכדור הארץ בצורה אנכית כלפי מעלה ובתאוצה קבועה. בגובה 1940 מטרים כבה לפתע מנוע החללית. החללית ממשיכה עוד 18 שניות בתנועה כלפי מעלה ולאחר מכן מתחילה ליפול בנפילה חופשית חזרה לקרקע.
- חשב את תאוצת הגוף עד לרגע בו כבה המנוע.
 - מצא את הגובה המקסימלי אליו הגיעה החללית.
 - מהו הזמן מרגע השיגור ועד לרגע בו פוגעת החללית בקרקע?
 - מהי מהירות החללית ברגע פגיעתה בקרקע?
- צופים שנמצאים במרחק 50 מטרים ממקום השיגור מתחילים לברוח מהרגע בו כבה המנוע.
- מהי המהירות הממוצעת בה צריכים הצופים לרוץ כך שיוכלו להיות במרחק של לפחות 120 מטרים ממקום השיגור?

(2) זריקה משופעת קלאסית

- כדור נזרק במהירות התחלתית של 20 מטרים לשנייה ובזווית של 60 מעלות מעל האופק.
- מתי יהיה הכדור בשיא הגובה? מהו שיא הגובה? מהי תאוצת הכדור ברגע זה?
 - מהו המרחק האופקי שבו יפגע הכדור חזרה בקרקע?
 - מהי מהירות הכדור (גודל וכיוון) ב- $t = 2 \text{ sec}$?

(3) מטוס בשיפוע משחרר פצצה

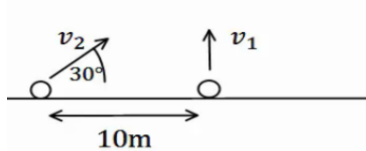
מטוס טס במהירות של 540 ק"מ לשעה בזווית של 30 מעלות מעל האופק. בגובה של 180 מטרים המטוס משחרר פצצה.



- היכן תפגע הפצצה בקרקע?
- מהו גודל מהירות הפגיעה של הפצצה בקרקע?
- מהו כיוון תנועת הפצצה ברגע הפגיעה?

4 שני כדורים – אולי נפגשים

כדור א' נזרק אנכית כלפי מעלה במהירות התחלתית לא ידועה.
 כדור ב' נזרק במרחק 10 מטרים משמאל לנקודת הזריקה של כדור א'.
 גודל מהירותו של כדור ב' אינה ידועה, אך כיוונה הוא ימינה בזווית של 30°
 מעלות עם הציר האופקי.



א. מצא מהי מהירות הכדורים, אם ידוע ששני
 הכדורים נחתו 4 שניות לאחר זריקתם

ב. האם הכדורים נפגשו באוויר?

ג. מה צריך להיות התנאי הכללי על מנת שהכדורים יפגשו באוויר?

תשובות סופיות:

$$1 \quad \text{א. } a \approx 8.35 \frac{\text{m}}{\text{sec}^2} \quad \text{ב. } h_{\max} = 3560\text{m} \quad \text{ג. } t = 66.24\text{sec}$$

$$\text{ד. } v(t = 44.68) = -266.8 \frac{\text{m}}{\text{sec}} \quad \text{ה. } \bar{v} \approx 1.57 \frac{\text{m}}{\text{sec}}$$

$$2 \quad \text{א. בזמן: } t = \sqrt{3} \text{ sec, שיא הגובה: } y(t = \sqrt{3}) = 15\text{m, תאוצה: } a = -10.$$

$$\text{ב. } x(t = 2 \cdot \sqrt{3}) = 20 \cdot \sqrt{3}\text{m} \quad \text{ג. גודל: } |\vec{v}| = 10.35 \frac{\text{m}}{\text{sec}}, \text{ כיוון: } \theta = 15^\circ.$$

$$3 \quad \text{א. } x(t) = 2,221.36\text{m} \quad \text{ב. } |\vec{v}| = 161.52 \frac{\text{m}}{\text{sec}} \quad \text{ג. } \theta = -36.5^\circ$$

$$4 \quad \text{א. } v_{\text{CadurB}} = 40 \frac{\text{m}}{\text{sec}}, v_{\text{CadurA}} = 20 \frac{\text{m}}{\text{sec}} \quad \text{ב. כן.} \quad \text{ג. התנאי: } v_{2y} = v_{1y}.$$

פיזיקה להנדסאי בניין

פרק 9 - דינמיקה - תנועה בהשפעת כוחות (חוקי ניוטון)

תוכן העניינים

79	1. הקדמה, חוק ראשון ושלישי
88	2. תרגילים נוספים לחוק ראשון ושלישי
92	3. חוק שני של ניוטון
107	4. הכוח האלסטי- קפיץ

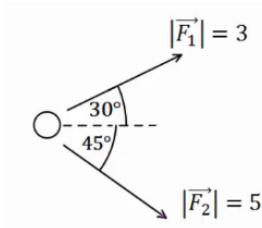
הקדמה, חוק ראשון ושלישי:

שאלות:

דינמיקה והכוחות הבסיסיים:

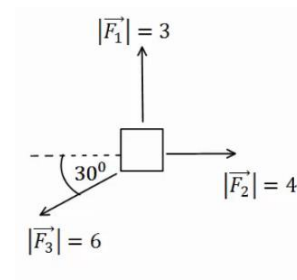
(1) דוגמה 1

חשב את שקול הכוחות הפועל על גוף במקרה הבא:



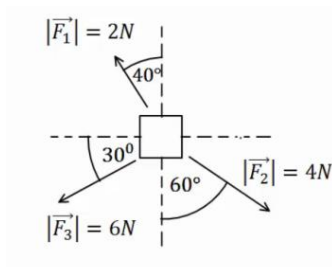
(2) דוגמה 2

חשב את שקול הכוחות הפועל על גוף במקרה הבא:



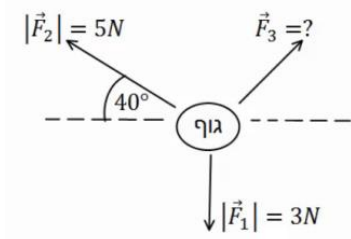
(3) דוגמה 3

חשב את שקול הכוחות הפועל על גוף במקרה הבא:



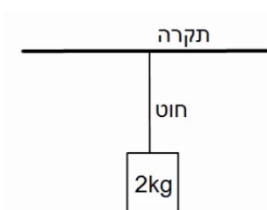
(4) דוגמה 4

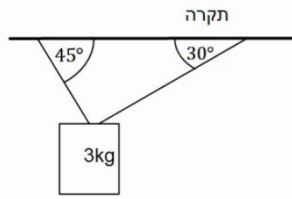
באיור הבא נתונים הכוחות \vec{F}_1 , \vec{F}_2 וידוע כי הגוף נע במהירות קבועה בקו ישר. מצא את גודלו וכיוונו של \vec{F}_3 .



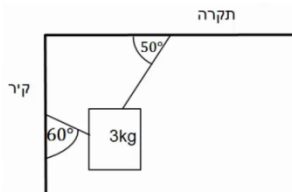
(5) דוגמה 5

גוף תלוי במנוחה מהתקרה באמצעות חוט יחיד. מהי המתחיות בחוט אם מסת הגוף היא 2 ק"ג?

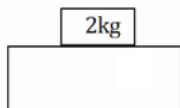


6 דוגמה 6

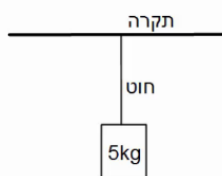
גוף תלוי במנוחה מהתקרה באמצעות שני חוטים, לפי האיור הבא.
 מהי המתחיות בכל חוט אם מסת הגוף היא 3 ק"ג?

7 דוגמה 7

גוף תלוי במנוחה מהתקרה באמצעות חוט ומחובר לקיר המאונך לתקרה באמצעות חוט נוסף (הסתכל באיור).
 מהי המתחיות בכל חוט אם מסת הגוף היא 3 ק"ג?

8 דוגמה 8

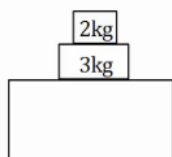
מסה של 2 ק"ג נמצאת במנוחה על שולחן.
 א. שרטט תרשים כוחות על המסה.
 ב. מהו גודלו וכיוונו של הכוח הנורמלי הפועל מהשולחן על המסה?
 ג. מהו גודלו וכיוונו של הכוח הנורמלי הפועל על השולחן מהמסה?

9 דוגמה 9

מסה של 5 ק"ג תלויה במנוחה מהתקרה באמצעות חוט יחיד.
 א. מהי המתחיות בחוט?
 ב. מהו גודלו וכיוונו של הכוח שמפעיל החוט על התקרה?
 ג. מהו גודלו וכיוונו של הכוח שמפעילה התקרה על החוט?

10 דוגמה 10

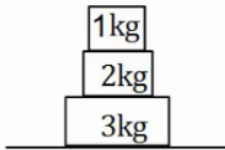
דני ויוסי מושכים בחבל משני צידיו, כל אחד מהם מושך בכוח של 50 ניוטון.
 מהי המתחיות בחבל?

11 דוגמה 11

במערכת הבאה ישנה מסה של 3 ק"ג הנמצאת במנוחה על שולחן.
 על המסה מונחת מסה נוספת של 2 ק"ג.
 א. שרטט תרשים כוחות לכל אחת מהמסות.
 ב. חשב את הכוח הנורמלי הפועל על המסה העליונה.
 ג. חשב את הכוח הנורמלי הפועל על המסה התחתונה מהשולחן.
 ד. חשב את הכוח הנורמלי הפועל על השולחן.

12 דוגמה 12

שלוש מסות מונחות אחת על גבי השנייה ועל הקרקע במנוחה, כפי שנראה בציר.



א. מהו גודלו וכיוונו של הכוח שמפעילה המסה הכי תחתונה על המסה מעליה?

ב. מהו גודלו וכיוונו של הכוח שמפעילה הרצפה על המסה הכי תחתונה?

חיכוך:**13 גוף על שולחן**

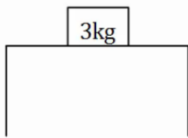
גוף בעל מסה של 3 ק"ג נמצא במנוחה על שולחן.

מקדם החיכוך הסטטי הוא $\mu_s = 0.4$.

א. מהו הכוח המקסימלי הניתן להפעיל על הגוף, כך שישאר במנוחה?

כוח אופקי בגודל 10 ניוטון פועל על הגוף ימינה.

ב. מצא את גודלו וכיוונו של החיכוך הסטטי.

**14 כוח מלמעלה**

גוף בעל מסה של 4 ק"ג נמצא במנוחה על שולחן.

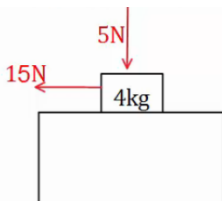
כוח אנכי בגודל של 5 ניוטון לוחץ את הגוף כלפי השולחן.

מקדם החיכוך הסטטי הוא: $\mu_s = 0.4$.

א. מהו הכוח המקסימלי הניתן להפעיל על הגוף, כך שישאר במנוחה?

כוח אופקי בגודל 15 ניוטון פועל על הגוף שמאלה.

ב. מצא את גודלו וכיוונו של החיכוך הסטטי.

**15 כוח תלוי בזמן**

גוף בעל מסה של 5 ק"ג נמצא במנוחה על שולחן.

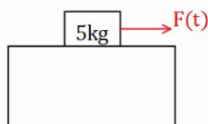
כוח אופקי התלוי בזמן $F(t) = 2 \cdot t^2$ פועל על הגוף ימינה.

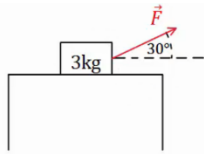
מקדם החיכוך הסטטי הוא: $\mu_s = 0.3$.

א. מהו הכוח המקסימלי הניתן להפעיל על הגוף, כך שישאר במנוחה?

ב. מתי יתחיל הגוף בתנועה?

ג. שרטט גרף של החיכוך הסטטי כתלות בזמן.

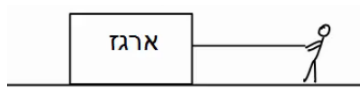


16) כוח בזווית

גוף בעל מסה של 3 ק"ג נמצא במנוחה על שולחן. כוח קבוע פועל על הגוף בזווית של 30 מעלות עם הכיוון האופקי. מקדם החיכוך הסטטי הוא: $\mu_s = 0.3$.

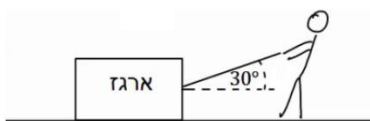
א. מהו הגודל המקסימלי של הכוח בשאלה אותו ניתן להפעיל כך שהגוף ישאר במנוחה?

ב. מצא את גודלו וכיוונו של החיכוך הסטטי אם גודל הכוח הוא 5 ניוטון.

17) דני מושך במקביל לקרקע

דני מושך ארגז במקביל לקרקע. ידוע כי מסת הארגז היא 20 ק"ג, ומקדם החיכוך הקינטי בין הארגז לקרקע הוא: $\mu_k = 0.2$.

מצא מהו גודלו של הכוח שמפעיל דני, אם הארגז נע במהירות קבועה.

18) ירון מושך בזווית

ירון מושך ארגז באמצעות חבל הנמתח בזווית של 30 מעלות ביחס לקרקע. ידוע כי מסת הארגז היא 20 ק"ג, ומקדם החיכוך הקינטי בין הארגז לקרקע הוא: $\mu_k = 0.2$.

מצא מהו גודלו של הכוח שמפעיל ירון, אם הארגז נע במהירות קבועה.

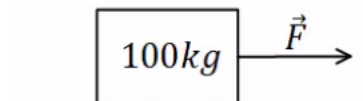
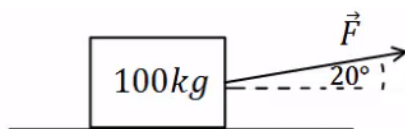
19) כוח בכמה כיוונים

מצא מה גודל הכוח הדרוש להזיז את הארגז במהירות קבועה בכל אחד מהמקרים הבאים.

מסת הארגז היא 100 ק"ג ומקדם החיכוך של הארגז עם הרצפה הוא: $\mu_k = 0.4$.

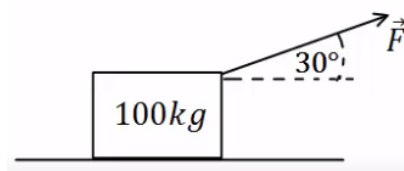
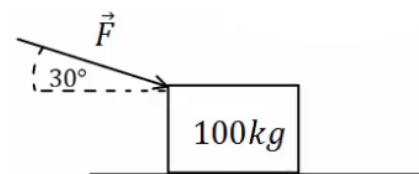
א. כוח מושך אופקי

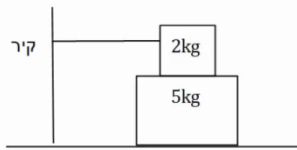
ב. כוח מושך בזווית של 20°



ג. כוח מושך בזווית של 30°

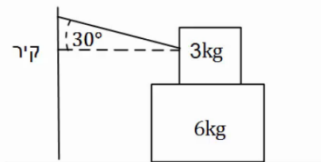
ד. כוח דוחף בזווית של 30° מתחת לאופק



**20) מסה על מסה קשורה לקיר**

מסה של 2 ק"ג מונחת מעל מסה של 5 ק"ג.
המסה העליונה קשורה בחוט אופקי לקיר משמאל.
מקדמי החיכוך בין המסות ובין המסה התחתונה
למשטח הם: $\mu_k = 0.2$, $\mu_s = 0.3$.

- מהו הכוח האופקי המקסימלי שניתן להפעיל על המסה התחתונה בכיוון ימין, כך שהיא תישאר במנוחה?
- מה המתוחות בחוט, אם הכוח הוא אותו כוח שחישבת בסעיף א'?
- מה הכוח אותו יש להפעיל על מנת למשוך את המסה התחתונה במהירות קבועה? הנח שהמסה כבר בתנועה.

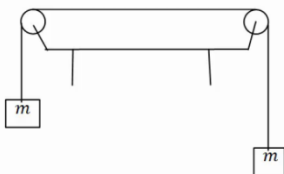
21) מסה על מסה קשורה לקיר בזווית

מסה של 3 ק"ג מונחת מעל מסה של 6 ק"ג.
המסה העליונה קשורה בחוט המתוח בזווית של 30 מעלות ומחובר לקיר משמאל.
מקדם החיכוך הסטטי בין המסות ובין המסה התחתונה למשטח הוא: $\mu_s = 0.3$.

- מהו הכוח האופקי המקסימלי שניתן להפעיל על המסה התחתונה בכיוון ימין, כך שהיא תישאר במנוחה?
- מהי המתוחות בחוט, אם גודל הכוח הינו זהה לערך אותו חישבת בסעיף א'?

22) שתי משקולות תלויות על שולחן

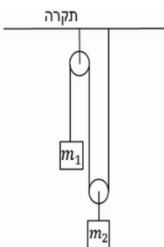
שתי משקולות זהות בעלות מסה של 4 ק"ג תלויות במנוחה משני צידיו של שולחן. המשקולות מחוברות באמצעות חוט העובר דרך גלגלות אידיאליות, ראה איור.



- מהי המתוחות בחוט?
- מהו הכוח (גודל וכיוון) שמפעיל המוט המחובר את הגלגלת לשולחן עבור כל גלגלת?
- האם היה שינוי בתשובתך לסעיפים הקודמים במידה והמסות היו נעות במהירות קבועה לאחד הכיוונים?

23) יחס מסות

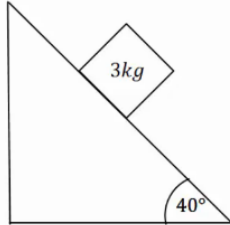
שתי מסות תלויות באמצעות חוטים וגלגלות אידיאלים לפי האיור הבא. המערכת נמצאת במנוחה.



- מצא את היחס בין המסות: $\left(\frac{m_1}{m_2} = ?\right)$.
- מצא את המתוחות בכל חוט במערכת, אם ידוע ש: $m_2 = 40\text{gr}$.

המישור המשופע:

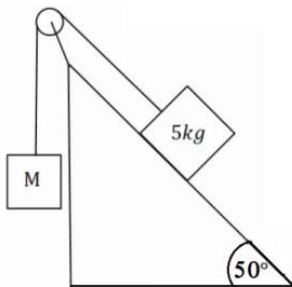
24) מסה בשיפוע



מסה של 3 ק"ג נמצאת במנוחה על מישור משופע בעל זווית של 40 מעלות. בין המסה למדרון קיים חיכוך, ומקדם החיכוך הסטטי הוא: $\mu_s = 0.2$.

א. שרטט תרשים כוחות לבעיה.
 ב. מצא את גודלם של הכוח הנורמלי והחיכוך.

25) מסה בשיפוע ומסה באוויר

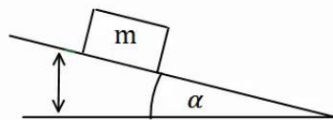


מסה של 5 ק"ג מונחת על מישור משופע בעל זווית של 50 מעלות. המסה מחוברת באמצעות חוט אידיאלי ודרך גלגלת אידיאלית למסה נוספת M התלויה באוויר מצידו השני של המישור.

א. מצא את גודלה של המסה M, על מנת שהמערכת תשאר במנוחה כאשר אין חיכוך בבעיה.
 כעת נתון שבין המסה למדרון קיים חיכוך, ומקדם החיכוך הסטטי הוא: $\mu_s = 0.3$.

ב. מצא מה הוא גודלה המקסימלי והמינימלי האפשרי של M, על מנת שהמערכת תשאר במנוחה.

26) זווית החלקה

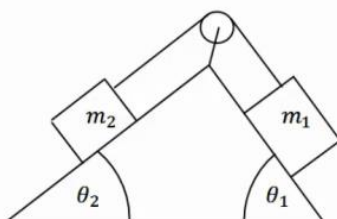


מסה m מונחת על מישור משופע ונמצאת במנוחה. מגדילים את זווית השיפוע של המישור בקצב איטי.

א. מצא את הזווית בה תתחיל המסה להחליק אם מקדם החיכוך הסטטי בין המסה למישור הוא: $\mu_s = 0.2$.
 תרגול בפרמטרים.

ב. פתור את סעיף א' שוב כאשר מקדם החיכוך נתון כפרמטר μ_s ללא ערך מספרי.
 ג. חשוב על דרך כללית למדידת מקדם החיכוך הסטטי של גוף עם משטח כלשהו.

27) שתי מסות שני שיפועים



במערכת הבאה ישנו מדרון עם שיפוע שונה משני צידיו, זוויות השיפוע הן θ_1, θ_2 . שתי מסות שונות m_1, m_2 מונחות בשני צידי המדרון. המסות מחוברות באמצעות חוט אידיאלי, ודרך גלגלת אידיאלית המקובעת למדרון. אין חיכוך בין המדרון למסות.

נתון: θ_1, θ_2, m_1 וכי המערכת נמצאת במנוחה. מצא את m_2 .

28) שתי מסות שני שיפועים וחיכוך

במערכת הבאה ישנו מדרון עם שיפוע שונה משני צידיו,

זוויות השיפוע הן: θ_1, θ_2 .

שתי מסות שונות m_1, m_2 מונחות בשני צידי המדרון.

המסות מחוברות באמצעות חוט אידיאלי,

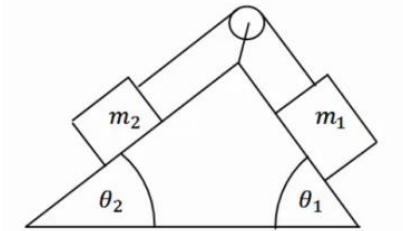
ודרך גלגלת אידיאלית המקובעת למדרון.

בין המסות למדרון קיים חיכוך.

המסות נעות במהירות קבועה עם כיוון השעון.

נתון: $\mu_k, \theta_1, \theta_2, m_1$.

מצא את m_2 .



תשובות סופיות:

$$\sum \vec{F} = (6.14, -2.04) \quad (1)$$

$$\sum \vec{F} = (-1.20, 0) \quad (2)$$

$$\sum F_x = -3.03\text{N}, \quad \sum F_y = -3.47\text{N} \quad (3)$$

$$\text{גודל: } |\vec{F}| \approx 3.84\text{N}, \quad \text{כיוון: } \theta_{F_3} = -3.14^\circ \quad (4)$$

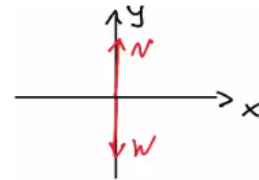
$$T = 20\text{N} \quad (5)$$

$$T_1 = 21.96\text{N}, \quad T_2 \approx 26.90\text{N} \quad (6)$$

$$T_1 \approx 26.30\text{N}, \quad T_2 \approx 19.48\text{N} \quad (7)$$

$$\text{א. גודל: } N = 20, \quad \text{כיוון: כלפי מעלה.} \quad (8)$$

$$\text{ג. גודל: } N = 20, \quad \text{כיוון: כלפי מטה.}$$



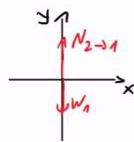
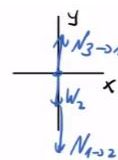
$$\text{א. } T = 50\text{N} \quad \text{ב. גודל: } T = 50\text{N}, \quad \text{כיוון: מטה.} \quad (9)$$

$$\text{ג. גודל: } |\vec{F}| = 50, \quad \text{כיוון: מעלה.}$$

$$T = 50\text{N} \quad (10)$$

$$\text{ג. } N_{32} = 50$$

$$\text{ב. } N_{21} = 20$$


 $m_1 \vec{a}$

 $m_2 \vec{a}$

$$\text{א.} \quad (11)$$

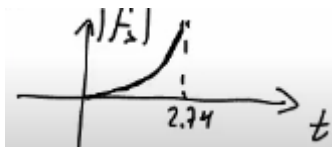
$$\text{ד. } N_{23} = 50\text{N}\hat{y}$$

$$\text{א. גודל: } N_{32} = 30\text{N}, \quad \text{כיוון: כלפי מעלה. ב. גודל: } N_{43} = 60\text{N}, \quad \text{כיוון: כלפי מעלה.} \quad (12)$$

$$\text{א. } f_{s\max} = 12\text{N} \quad \text{ב. } \vec{f}_s = -10\hat{x} \quad (13)$$

$$\text{א. } f_{s\max} = 18\text{N} \quad \text{ב. } \vec{f}_s = -15\hat{x}_N \quad (14)$$

$$\text{א. } f_{s\max} = 15\text{N} \quad \text{ב. } t = 2.74\text{sec} \quad (15)$$



$$\text{א. } F_{\max} = 8.858\text{N} \quad \text{ב. } f_s = 4.330\text{N} \quad (16)$$

$$F_{\text{Dani}} = T = 40\text{N} \quad (17)$$

$$T \approx 41.41\text{N} \quad (18)$$

$$\text{ז. } F = 600.58\text{N}$$

$$\text{ג. } F = 375.23\text{N}$$

$$\text{ב. } F \approx 371.57\text{N}$$

$$\text{א. } F = 400\text{N} \quad (19)$$

$$F = 18\text{N} \quad \text{ג.} \quad T = 6\text{N} \quad \text{ב.} \quad F_{\max} = 27\text{N} \quad \text{א.} \quad (20)$$

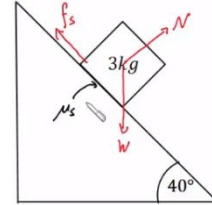
$$T = 8.86\text{N} \quad \text{ב.} \quad F_{\max} = 33.34\text{N} \quad \text{א.} \quad (21)$$

$$\theta = 45^\circ, F = 56.57\text{N} \quad \text{ב.} \quad T = 40\text{N} \quad \text{א.} \quad (22)$$

ג. לא.

$$T_2 = 0.4\text{N}, T_1 = 0.2\text{N} \quad \text{ב.} \quad \frac{m_1}{m_2} = \frac{1}{2} \quad \text{א.} \quad (23)$$

$$f_s = mg \cos 50^\circ \approx 19.28\text{N}, N \approx 22.98\text{N} \quad \text{ב.} \quad (24)$$



$$M_{\max} = 4.79\text{kg}, M_{\min} = 2.87\text{kg} \quad \text{ב.} \quad M = 3.83\text{kg} \quad \text{א.} \quad (25)$$

$$\alpha = \arctan(\mu_s) \quad \text{ב.} \quad \alpha = 11.31^\circ \quad \text{א.} \quad (26)$$

ג. ראה סרטון.

$$m_2 = m_1 \frac{\sin \theta_1}{\sin \theta_2} \quad (27)$$

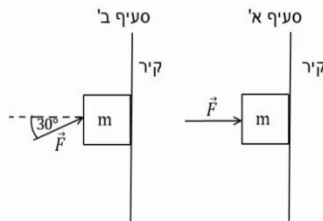
$$m_2 = m_1 \left(\frac{-\mu_k \cos \theta_1 + \sin \theta_1}{\sin \theta_2 + \mu_k \cos \theta_2} \right) \quad (28)$$

תרגילים נוספים לחוק ראשון ושלישי:

שאלות:

(1) מסה מוצמדת לקיר

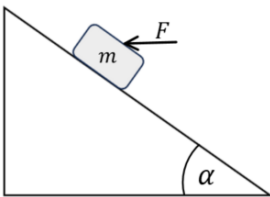
ארגז בעל מסה של 2 ק"ג מוצמד לקיר באמצעות כוח אופקי. מקדם החיכוך הסטטי בין הארגז לקיר הוא: 0.3.



- א. מה הגודל המינימלי של הכוח המאפשר לשמור על הארגז במנוחה?
 ב. חזור על סעיף א' עבור המקרה בו הכוח פועל בזווית של 30° כלפי מעלה ביחס לאופק.

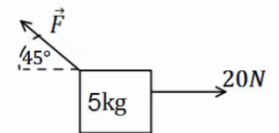
(2) כוח אופקי מיני ומקס על מסה בשיפוע

מסה: $m = 2\text{kg}$ מונחת על מדרון משופע בעל זווית: $\alpha = 37^\circ$. מקדם החיכוך הסטטי בין המסה למדרון הוא: $\mu_s = 0.15$. כוח אופקי F פועל על המסה ומחזיק אותה במנוחה. מהו F המינימלי והמקסימאלי כך שהמסה תשאר במנוחה?



(3) קופסה עם כוח לא ידוע

קופסה בעלת מסה של 5 ק"ג מונחת על משטח אופקי. כוח של 20 ניוטון מושך את הקופסה ימינה במקביל לציר ה- x . בין המשטח לקופסה קיים חיכוך, מקדם החיכוך הקינטי הוא: $\mu_k = 0.2$.

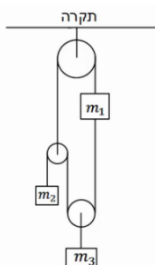


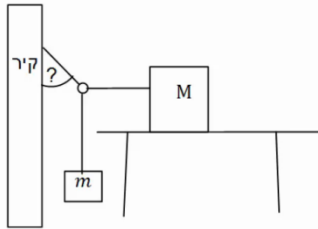
כוח נוסף מופעל על הקופסה אחורנית בזווית של 45° . מצא את גודלו של הכוח אם ידוע שהמסה נעה ימינה במהירות קבועה.

(4) מערכת גלגלות

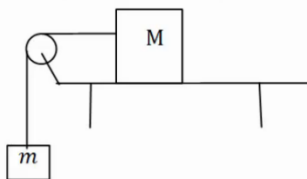
במערכת הבאה כל הגלגלות והחוט הם אידיאליים. המסות m_1, m_2 נתונות.

מצא את m_3 ואת המתחויות בכל חוט, אם ידוע כי כל המערכת נמצאת במנוחה.

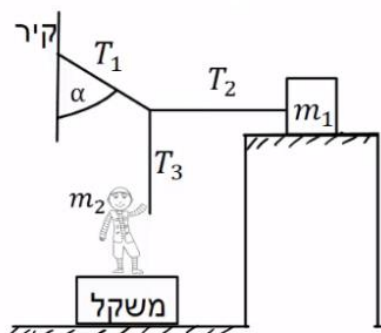


(5) מסה על שולחן, מסה תלויה, טבעת וקיר

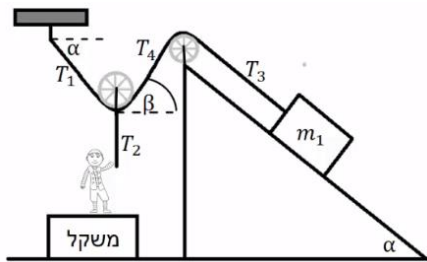
קופסה בעלת מסה M מונחת על שולחן. הקופסה קשורה בחוט אידיאלי לטבעת חסרת מסה. מסה m תלויה גם כן באמצעות חוט אידיאלי מהטבעת ונמצאת באוויר. חוט נוסף מחבר את הטבעת לקיר. ידוע כי מקדם החיכוך הסטטי בין המסה M לשולחן הוא: μ_s , וכי כוח החיכוך הפועל על המסה במצב הנ"ל מקסימלי. מצא את המתיחות בכל חוט ואת הזווית בה מחובר החוט לקיר, אם: M, m, μ_s נתונים.

(6) מקדם חיכוך מינימלי וכוחות על השולחן

קופסה בעלת מסה M מונחת על שולחן. הקופסה קשורה בחוט אידיאלי ודרך גלגלת אידיאלית לקופסה נוספת בעלת מסה m התלויה באוויר. בין השולחן לקופסה קיים חיכוך, מקדם החיכוך הסטטי אינו ידוע. א. מצא מהו ערכו המינימלי האפשרי של מקדם החיכוך הסטטי, אם ידוע שהמערכת נמצאת במנוחה. הנח שהמסות נתונות. ב. מהו הכוח שמפעיל המוט המחזיק את הגלגלת על הגלגלת? ג. מהו הכוח הכולל הפועל על השולחן מהמערכת (מסות והמוט שמחזיק את הגלגלת)? ד. מהו הכוח הנורמלי ומהו כוח החיכוך הפועלים על השולחן מהרצפה? (התייחס למסת השולחן כנתונה).

(7) נער מושך בחוטים

מסה m_1 מונחת על משטח אופקי לא חלק. נער שמסתו m_2 מושך את קצה החוט T_3 , כך שהמסה m_1 על סף תנועה. הנער עומד על משקל. נתון: $\mu_s = 0.2$, $\alpha = 30^\circ$, $m_2 = 50\text{kg}$. החוט T_2 אופקי ו- T_3 אנכי. הוראת המשקל היא: 450N . א. חשב את המתיחות בחוטים: T_1 , T_2 ו- T_3 . ב. חשב את ערכה של מסה m_1 .

8) נער מושך בחוטים שוב

מסה m_1 מונחת על משטח משופע לא חלק.

נער שמסתו m_2 מושך את קצה החוט T_2 .

החוט T_2 מחובר למרכז הגלגלת חסרת חיכוך ומסה. הנער עומד על משקל.

נתון: $\mu_s = 0.2$, $\alpha = 40^\circ$, $m_1 = 80\text{kg}$, $m_2 = 60\text{kg}$.

החוט T_2 מאונך ו- T_3 מקביל למדרון.

הוראת המשקל היא: 120N .

א. חשב את הזווית β (הזווית בין החוט לאופק).

ב. חשב את המתוחות בחוטים: T_1, T_2, T_4 .

ג. מצא את גודלו וכיוונו של כוח החיכוך בין m_1 למדרון.

9) נער מושך בעגלה הקשורה למשקולת

בתרשים שלפניך מוצגת מערכת.

אדם מושך עגלה שמסתה $m_1 = 15\text{kg}$ באמצעות חוט.

החוט בזווית $\alpha = 30^\circ$ עם הציר האופקי, ראה תרשים. החיכוך בין העגלה למשטח ניתן להזנחה.

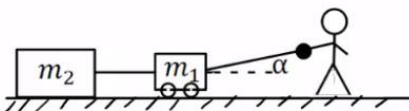
לעגלה מחוברת משקולת $m_2 = 25\text{kg}$.

מקדם החיכוך בין המשקולת למשטח שווה $\mu_k = 0.2$.

מערכת הגופים נעים במהירות קבועה.

א. מהי המתוחות בחוט בין העגלה למשקולת?

ב. מהו הכוח שהאדם מושך את מסה m_1 ?

**10) אדם הולך על קרש על מישור משופע ****

קרש שמסתו M מונח על מישור משופע חלק הנטוי בזווית θ .

אדם שמסתו: $m = 0.4M$ הולך על גבי הקרש.

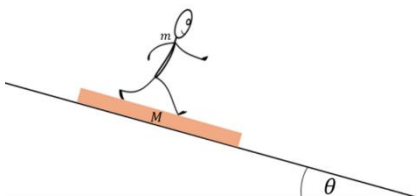
בין האדם לקרש קיים חיכוך. הניחו שהכוח שמפעיל האדם על הקרש קבוע ושהמישור מקובע.

א. באיזה כיוון צריך האדם ללכת כך שהקרש יישאר במנוחה?

ב. מה צריכה להיות תאוצת האדם בסעיף א?

ג. מהו מקדם החיכוך הסטטי המינימלי המאפשר את המצב בסעיף א? (בהליכה החיכוך עם המשטח הוא סטטי למרות שיש תנועה)

ד. האדם משנה את הליכתו כך שעכשיו הוא נשאר במקום ביחס לקרקע והקרש נע ביחס לקרקע. מה כיוון הליכתו של האדם ומהי תאוצת המשטח במקרה זה?



תשובות סופיות:

$$F \geq 26.32\text{N} \quad \text{ב.} \quad F_{\min} = 66.67\text{N} \quad \text{א.} \quad (1)$$

$$F_{\min} = 10.8\text{N}, F_{\max} = 20.4\text{N} \quad (2)$$

$$F \approx 17.68\text{N} \quad (3)$$

$$T_1 = (m_1 + m_2)g, T_2 = m_2g, T_3 = 2m_2g, T_4 = 2(m_1 + m_2), m_3 = 2m_2 \quad (4)$$

$$\cot \alpha = \frac{m}{\mu_s M} \quad (5)$$

$$\sum F_y = (-M + m)g \quad \text{ג.} \quad F = \sqrt{2}mg \quad \text{ב.} \quad \mu_{s_{\min}} = \frac{m}{M} \quad \text{א.} \quad (6)$$

$$N = -\sum F_y = (M + m)g + \tilde{M}g \quad \text{ד.}$$

$$m_1 = 14.5\text{kg} \quad \text{ב.} \quad T_1 = 57.7\text{N}, T_2 = 28.9\text{N}, T_3 = 50\text{N} \quad \text{א.} \quad (7)$$

$$T_2 = 480\text{N}, T_1 = T_4 \approx 373\text{N} \quad \text{ב.} \quad \beta = 40^\circ \quad \text{א.} \quad (8)$$

$$\text{ג.} \quad f_s = 141\text{N} \quad \text{כיוון: במעלה המדרון.}$$

$$T_1 = 57.7\text{N} \quad \text{ב.} \quad T_2 = 50\text{N} \quad (9)$$

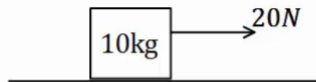
$$\mu_{s_{\min}} = \frac{\tan \theta}{0.4} \quad \text{ג.} \quad \frac{7}{2}g \sin \theta \quad \text{ב.} \quad \text{א.} \quad \text{במורד המישור.} \quad (10)$$

$$\text{ד.} \quad \text{במעלה המישור.} \quad a = 1.4g \sin \theta$$

חוק שני של ניוטון:

שאלות:

(1) דוגמה 1

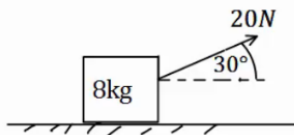


כוח של 20 ניוטון מופעל על ארגז בעל מסה של 10 ק"ג.
אין חיכוך בין הארגז לרצפה.

א. מצא את תאוצת הארגז.

ב. כמה זמן ייקח להזיז את הארגז למרחק של 30 מטרים באמצעות כוח זה, אם נתון שהארגז התחיל תנועתו ממנוחה?

(2) דוגמה 2



כוח של 20 ניוטון פועל בזווית של 30 מעלות מעל האופק.
הכוח מופעל על ארגז בעל מסה של 8 ק"ג.
הארגז נמצא במנוחה ונתון כי בין הארגז לרצפה קיים חיכוך.

מקדמי החיכוך הסטטי והקינטי הם: $\mu_s = 0.2, \mu_k = 0.1$.

א. בדוק האם הארגז נשאר במנוחה או מתחיל לנוע.

ב. כמה זמן ייקח להזיז את הארגז למרחק של 30 מטרים באמצעות כוח זה?

ג. חזור על הסעיפים אם הכוח היה בזווית של 70 מעלות.

(3) מרחק עצירה

דני נוסע במכוניתו במהירות של 54 קמ"ש, ולפתע הוא מבחין כי רמזור הנמצא 50 מטרים לפניו הופך לאדום. דני לוחץ על הבלמים ומתחיל בעצירה.

מקדם החיכוך הקינטי בין הגלגלים לרצפה הוא: $\mu_k = 0.3$.

הנח שהגלגלים ננעלים ואין למכונית מערכת ABS.

א. האם דני יספיק לעצור לפני הרמזור?

ב. בדוק שוב האם דני יספיק לעצור, אך הפעם הוסף זמן תגובה של שנייה אחת (הזמן מהרגע שבו דני מבחין באור עד אשר הוא לוחץ על הבלמים).

(4) כוח קבוע נפסק בפתאומיות

מסה של 2 ק"ג נמצאת במנוחה על משטח אופקי.

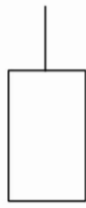
ברגע $t = 0$ מתחיל לפעול על המסה כוח אופקי של 10N.

המסה מתחילה לנוע בהשפעת הכוח במשך 4 שניות, ואז נפסק הכוח בפתאומיות.

מקדם החיכוך הקינטי בין המסה לקרקע הוא: $\mu_k = 0.2$.

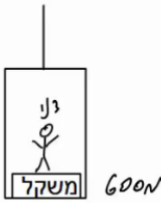
א. מה המרחק אותו עבר הגוף עד ל- $t = 4\text{sec}$?

ב. מהו המרחק הכולל אותו עבר הגוף עד לעצירתו שוב?

(5) כוחות על מעלית

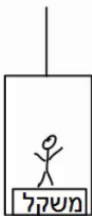
מעלית עולה בתאוצה של 0.5 מטרים לשנייה בריבוע, באמצעות כבל הקשור לתקרתה. מסת המעלית היא 600 ק"ג.

- שרטט תרשים כוחות על המעלית.
- הקפד על הגודל היחסי של כל וקטור בשרטוט.
- שרטט את שקול הכוחות ואת וקטור התאוצה.
- מהי המתוחות בכבל?

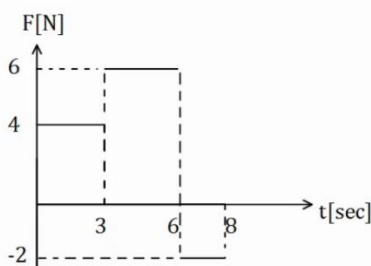
(6) משקל במעלית

דני מודד את משקלו בתוך מעלית. משקלו כאשר המעלית במנוחה הוא 600 ניוטון.

- מהי מסתו של דני?
- מה יראה המשקל אם המעלית יורדת במהירות קבועה של 3 מטרים לשנייה?
- מה יראה המשקל אם המעלית עולה בתאוצה של 3 מטר לשנייה בריבוע?
- מה יראה המשקל אם המעלית יורדת בתאוצה של 3 מטר לשנייה בריבוע?
- מה יראה המשקל אם המעלית נופלת נפילה חופשית?

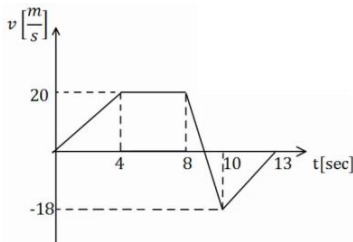
(7) עוד משקל במעלית

יוסי נמצא במעלית ומודד את מסתו באמצעות משקל. יוסי מודד פעם אחת כאשר המעלית נמצאת בתאוצה כלפי מעלה של 3 מטרים לשנייה בריבוע, ופעם אחת כאשר המעלית נמצאת בתאוצה כלפי מטה של 1 מטר לשנייה בריבוע. ההפרש בין המדידות הוא 12 ק"ג. מהי מסתו האמיתית של יוסי?

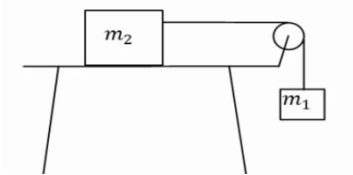
(8) גרפים 1

בגרף הבא נתון הכוח הפועל על גוף כתלות בזמן.

- מצא את תאוצת הגוף כתלות בזמן אם מסת הגוף היא 5 ק"ג.
- מצא את מהירות הגוף כתלות בזמן אם מהירותו ההתחלתית היא: $v_0 = 0$.
- מצא את מיקום הגוף כתלות בזמן אם המיקום ההתחלתי הוא: $x_0 = 0$.

**9) גרפים 2**

גוף בעל מסה של 3 ק"ג נע לאורך קו ישר. מהירות הגוף כתלות בזמן נתונה לפי הגרף הבא. מצא את שקול הכוחות הפועל על הגוף בכל רגע, ושרטט גרף של השקול כתלות בזמן.

10) מסה על שולחן מחוברת למסה תלויה

במערכת הבאה המסה $m_2 = 5\text{kg}$ נמצאת על שולחן אופקי ומחוברת דרך חוט אידיאלי למסה התלויה באוויר m_1 . בין השולחן ל- m_2 קיים חיכוך ומקדמי החיכוך הם: $\mu_s = 0.3$, $\mu_k = 0.2$.

המערכת מתחילה ממנוחה וגובה המסה m_1 מעל הקרקע הוא: 3m .


א. מצא את גודלה המינימלי של m_1 , עבורה המערכת תהיה בתנועה.

ב. הנח שגודלה של m_1 כפול מזה שחישבת בסעיף הקודם.

מהן תאוצות המסות?

ג. כמה זמן ייקח למסה להגיע אל הקרקע?

ד. מהן מהירויות המסות ברגע זה?

11) כוח מושך מסה שמושכת מסה

מסה של 2 ק"ג נמצאת במנוחה על משטח אופקי. המסה מחוברת באמצעות חוט אידיאלי למסה נוספת של 3 ק"ג הנמצאת במנוחה על המשטח גם כן. כוח אופקי של 25 ניוטון מושך את המסה הראשונה כלפי ימין.

א. מצא את תאוצות המסות ואת המתיחות בחוט אם המשטח חלק (חסר חיכוך).

ב. חזור על סעיף א' במידה וקיים חיכוך בין המסות למשטח, ומקדם החיכוך

הקינטי הוא: $\mu_k = 0.2$.

12) כוח מושך מסה שמושכת מסה שמושכת מסה

מסה של 2 ק"ג נמצאת במנוחה על משטח אופקי. המסה מחוברת באמצעות

חוט אידיאלי למסה נוספת של 3 ק"ג הנמצאת במנוחה על המשטח גם כן.

המסה השנייה מחוברת למסה של 4 ק"ג בצורה דומה.

כוח אופקי של 60 ניוטון מושך את המסה הראשונה כלפי ימין.

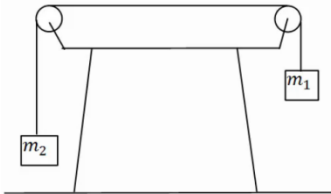
א. מצא את תאוצות המסות ואת המתיחות בחוטים אם המשטח חלק (חסר חיכוך).

ב. חזור על סעיף א' במידה וקיים חיכוך בין המסות למשטח ומקדם

החיכוך הקינטי הוא: $\mu_k = 0.2$.

13 שתי מסות תלויות

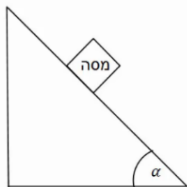
במערכת הבאה שתי מסות שונות: $m_1 = 3\text{kg}$, $m_2 = 1\text{kg}$.
 המסות מחוברות באמצעות חוט אידיאלי ודרך גלגלות אידיאליות.
 המערכת מתחילה ממנוחה וגובה המסה m_1 מעל הקרקע הוא: $2m$.



- שרטט תרשים כוחות עבור כל מסה.
- חשב את תאוצת הגופים.
- לאיזה כיוון תתחיל המערכת לנוע?
- כמה זמן ייקח למסה להגיע אל הקרקע?
- מהי מהירות המסות ברגע זה?

14 מדרון משופע בסיסי

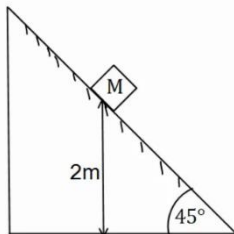
מסה מונחת על מדרון משופע בעל זווית α .
 אין חיכוך בין המסה למדרון.



- שרטט תרשים כוחות על המסה.
- בטא את תאוצת המסה באמצעות הזווית.
- רשום משוואת מיקום-זמן ומהירות-זמן של המסה.

15 מדרון משופע עם חיכוך

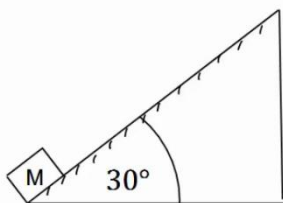
מסה M מונחת על מדרון משופע בגובה של 2 מטרים.
 זווית השיפוע של המדרון היא 45 מעלות ומקדמי החיכוך
 הסטטי והקינטי בין המסה למדרון הם: $\mu_s = 0.2$, $\mu_k = 0.1$.



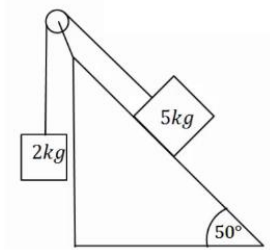
- האם המסה תתחיל להחליק או תישאר במנוחה?
- מצא תוך כמה זמן תגיע המסה לתחתית המדרון.
 מהי מהירותה ברגע זה?

16 מסה נזרקת במעלה המדרון

מסה M נזרקת במעלה מדרון משופע במהירות התחלתית של: $v_0 = 20 \frac{\text{m}}{\text{sec}}$.
 זווית המדרון היא 30 מעלות. מקדמי החיכוך הסטטי והקינטי בין המסה
 למדרון הם: $\mu_s = 0.25$, $\mu_k = 0.2$.



- מצא את תאוצת המסה.
- רשום משוואת מיקום-זמן עבור תנועת המסה.
- מתי מגיעה המסה לשיא גובה תנועתה על המדרון?
- האם המסה תיעצר בשיא הגובה?
- כמה זמן ייקח למסה לחזור לתחתית המדרון
 מהרגע שבו התחילה תנועתה?

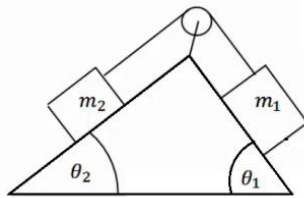
**17) מסה בשיפוע ומסה תלויה**

מסה של 5 ק"ג מונחת על מדרון משופע בעל זווית שיפוע של 50 מעלות. המסה מחוברת דרך חוט אידיאלי למסה של 2 ק"ג התלויה באוויר. אין חיכוך בין המסה למדרון.
א. לאיזה כיוון תנוע המערכת?
ב. מצא את תאוצת המערכת.

כעת הנח שקיים חיכוך ומקדמי החיכוך הם: $\mu_s = 0.25$, $\mu_k = 0.2$.

ג. לאיזה כיוון יפעל החיכוך? האם החיכוך סטטי או קינטי?

ד. מצא שוב את תאוצת המערכת.

**18) שתי מסות שני שיפועים 2**

במערכת הבאה ישנו מדרון עם שיפוע שונה משני צידיו, זוויות השיפוע הן: θ_1 , θ_2 .

שתי מסות שונות m_1 , m_2 מונחות בשני צידי המדרון. המסות מחוברות באמצעות חוט אידיאלי ודרך גלגלת אידיאלית המקובעת למדרון. אין חיכוך בין המסות למדרון.

נתון: $\theta_1 = 45^\circ$, $\theta_2 = 30^\circ$, $m_1 = 2\text{kg}$, $m_2 = 4\text{kg}$.

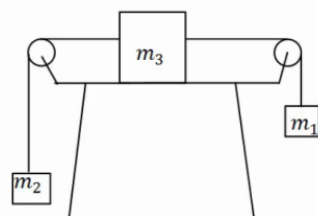
א. לאיזה כיוון תנוע המערכת?

ב. מצא את תאוצת המערכת.

כעת הנח שקיים חיכוך ומקדמי החיכוך הם: $\mu_s = 0.25$, $\mu_k = 0.2$.

ג. לאיזה כיוון יפעל החיכוך והאם החיכוך סטטי או קינטי?

ד. מצא שוב את תאוצת המערכת.

**19) מסה על שולחן ושתי מסות תלויות**

מסה m_3 מונחת על שולחן במנוחה.

המסה קשורה משני צידיה לחוטים אידיאליים. כל חוט עובר דרך גלגלת ומחובר למסה שונה התלויה באוויר (ראה איור).
הנח שהמסות לא פוגעות ברצפה.

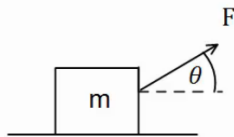
נתון: $m_1 = 14\text{kg}$, $m_2 = 2\text{kg}$, $m_3 = 4\text{kg}$.

א. מצא את תאוצות המסות והמתיחות בחוטים אם אין חיכוך בין m_3 לשולחן.

כעת הנח שיש חיכוך בין m_3 לשולחן ומקדמי החיכוך הם: $\mu_s = 0.25$, $\mu_k = 0.2$.

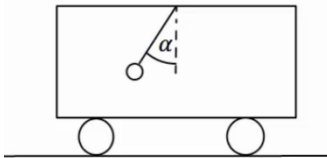
ב. האם המערכת תהיה במנוחה או בתנועה?

ג. מצא שוב את תאוצת הגופים והמתיחות בחוטים.

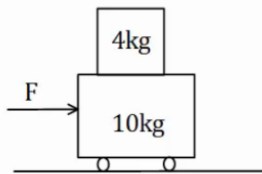
20) זווית אופטימלית למשיכה

כוח F מושך ארגז בעל מסה m בזווית θ מעל האופק. מקדם החיכוך בין הארגז לקרקע הוא μ_k .

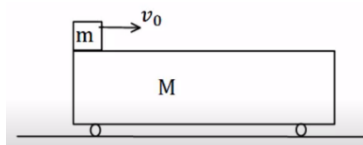
- מצא את תאוצת הכוח כתלות בפרמטרים הרשומים בשאלה. (הנח כי יש תנועה והארגז לא מתרומם מעל הקרקע).
- הנח כי מקדם החיכוך הקינטי הוא 0.3. בדוק באילו מהערכים הבאים של הזווית יש את התאוצה הגבוהה ביותר: $\theta = -10^\circ, 0^\circ, 10^\circ, 20^\circ, 30^\circ, 45^\circ$.
- מצא את הזווית המדויקת בה התאוצה תהיה מקסימלית. השתמש בנגזרת.

21) מטוטלת במכונית

- מטוטלת קשורה לתקרת מכונית. המטוטלת נמצאת בזווית קבועה ונתונה α , ביחס לאנך מתקרת המכונית.
- מצא מהי תאוצת המכונית (גודל וכיוון).
 - האם ניתן לדעת מה כיוון תנועת המכונית?

22) מסה של 4 על עגלה של 10

- מסה של 4 ק"ג מונחת מעל עגלה בעלת מסה של 10 ק"ג. החיכוך בין העגלה למשטח זניח. מקדם החיכוך הסטטי בין המסה לעגלה הוא: $\mu_s = 0.2$. כוח אופקי F מופעל על המסה התחתונה ימינה. מהו הכוח המקסימלי הניתן להפעיל כך שהמסה העליונה לא תחליק על העגלה.

23) מסה מחליקה על עגלה

- מסה m מונחת מעל עגלה בעלת מסה M הנמצאת במנוחה. המסה מונחת בקצה השמאלי של העגלה. נותנים למסה העליונה בלבד מהירות התחלתית v_0 . בין המסה לגג העגלה קיים חיכוך והחיכוך בין העגלה למשטח זניח.

נתון: $\mu_k = 0.2$, $v_0 = 20 \frac{\text{m}}{\text{sec}}$, $M = 12\text{kg}$, $m = 3\text{kg}$.

- מצא את הביטוי למיקום ולמהירות של המסה כתלות בזמן.
- מצא את הביטוי למיקום והמהירות של העגלה כתלות בזמן.
- מהי המהירות הסופית של שני הגופים בהנחה שהמסה לא נופלת מהעגלה?

24) מסה צמודה למשאית

מסה m מונחת בצמוד לחלקה הקדמי של משאית.
 בין המסה למשטח קיים חיכוך. נתון: μ_s, m .
 מהי התאוצה המינימלית הדרושה למשאית על מנת
 שהמסה לא תיפול?

25) כוח דוחף שתי קופסאות צמודות

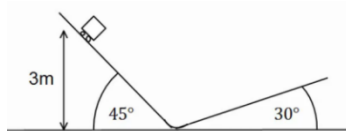
שתי תיבות נמצאות צמודות זו לזו על משטח אופקי חסר חיכוך.
 מסות התיבות הן: $m_1 = 3\text{kg}$ ו- $m_2 = 5\text{kg}$. כוח אופקי
 דוחף את תיבה 2 שדוחפת את תיבה אחת כפי שמתואר בתרשים.
 גודל הכוח הוא: $F = 16\text{N}$. חשב את:



- התאוצה של כל תיבה.
- הכוח הנורמלי $N_{1 \rightarrow 2}$ שבו התיבה הראשונה דוחפת את השנייה.
- הכוח הנורמלי $N_{2 \rightarrow 1}$ שבו התיבה השנייה דוחפת את הראשונה.

26) קופסה בין מדרונות

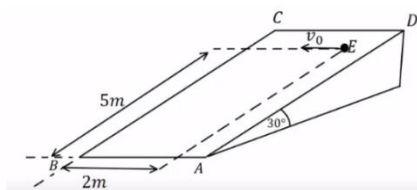
קופסה קטנה עם גלגלים מונחת על מישור משופע בעל זווית של 45° מעלות.
 הקופסה משוחררת ממנוחה מגובה של 3m מטרים
 ומתחילה בתנועה. בתחתית המדרון הקופסה עוברת
 למדרון משופע אחר בעל זווית של 30° מעלות.
 הזנח אפקטים המתרחשים בעת המעבר והנח כי גודל
 מהירות הקופסה במעבר בין המדרונות נשאר זהה.



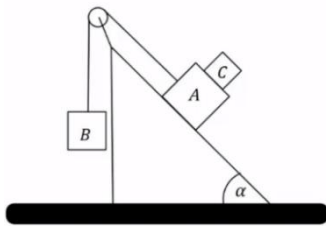
- מהו הגובה המקסימלי אליו תגיע הקופסה במדרון השני?
 נחש מה יקרה לאחר מכן.
- חזור על סעיף א' אם נהג הקופסה שכח לשחרר את מעצור היד של הגלגלים
 וקיים חיכוך קינטי בין הקופסה למשטח. מקדם החיכוך הוא: $\mu_k = 0.2$.

27) זריקה אופקית על מישור משופע

מישור משופע חלק ABCD יוצר זווית של 30° מעלות עם הקרקע.
 הנקודה E נמצאת במרחק 5m מהצלע AB ובמרחק 2m מהצלע BC.
 מן הנקודה E נזרק כדור קטן על הלוח במהירות
 התחלתית v_0 שכיוונה מקביל לצלע AB.

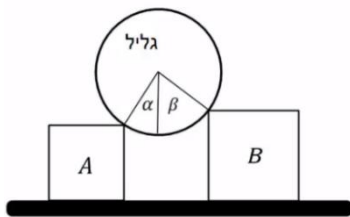


- צייר מערכת צירים ורשום את הכוחות הפועלים על הכדור בעת תנועתו על הלוח בכל ציר.
- מהי צורת המסלול של הכדור על הלוח?
- מצא את v_0 עבורה הכדור יגיע בדיוק לנקודה B.
- מהי מהירות הכדור בנקודה B עבור ה- v_0 שמצאת בסעיף ג'?

**28) גוף על גוף במישור משופע**

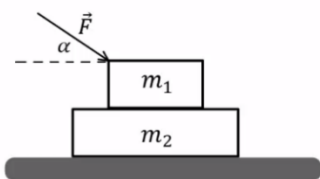
גוף A בעל מסה m_A וגוף B בעל מסה m_B מחוברים באמצעות חוט וגלגלת כמתואר באיור. גוף A מונח על מישור משופע חלק בעל זווית α . גוף C בעל מסה m_C מונח על גוף A. מקדם החיכוך הסטטי בין הגופים ל-C הוא μ_s . הבא את התשובות באמצעות: m_A, m_C, α, μ_s .

- מהי המסה המרבית של גוף B כך שגוף C וגוף A ינועו יחדיו במעלה המישור?
- מהי תאוצת הגופים והמתיחות בחוט אם המסה של גוף B היא זאת שמצאת בסעיף א' (או טיפה קטנה ממנה)?
- מהן תאוצות הגופים אם המסה של גוף B גדולה מזו שמצאת בסעיף א' ומקדם החיכוך הקינטי הוא μ_k ?

**29) גליל על שני ארגזים**

גליל אחיד שמסתו m מונח על שני ארגזים שמסותיהם: $m_A = m$ ו- $m_B = 2m$. לארגזים גבהים שונים והם מונחים על משטח אופקי. בין הגליל לארגזים אין חיכוך. כשהמערכת נמצאת בשיווי משקל יוצרים רדיוסי הגליל הנוגעים בפניות הארגזים זוויות של $\alpha = 30^\circ$ ו- $\beta = 45^\circ$ עם האנך לקרקע, ראה איור. נתונים: g, m .

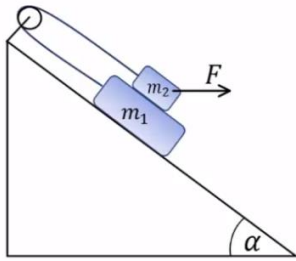
- מה הכוח שמפעיל כל ארגז על הגליל?
- בהנחה שקיים אותו מקדם חיכוך בין הארגזים והמשטח, מהו גודלו המינימלי של מקדם החיכוך כך שהמערכת תישאר בשיווי משקל?

**30) כוח דוחף גוף על גוף**

- שני גופים זהים שמסותיהם: $m_1 = m_2 = m$ מונחים זה על גבי זה על גבי שולחן אופקי חלק (ראה איור). בין הגופים קיים חיכוך ומקדמי החיכוך הקינטי והסטטי הם: μ_s, μ_k .
- כוח חיצוני \vec{F} מופעל על הגוף העליון בזווית α מתחת לאופק. הביעו את תשובתכם באמצעות הפרמטרים: $F, \alpha, m, g, \mu_s, \mu_k$.
- בהנחה שהגופים נעים יחדיו מהי התאוצה המשותפת?
 - בהנחה שהגופים נעים יחדיו מהו גודלו של כוח החיכוך בין הגופים?
 - מהו גודלו המקסימלי של \vec{F} כך שהגופים ינועו יחדיו?
 - נתון כי: $\mu_s = 0.2, \mu_k = 0.15, \alpha = 30^\circ$.

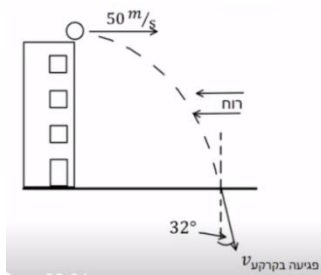
מצא את תאוצת כל גוף כאשר הכוח הדוחף הוא: $F = \frac{1}{2}mg$.

ה. חזור על סעיף ד' כאשר: $F = 3mg$.

31) מסה על מסה מחוברות בגלגלת

- נתונה מערכת הכוללת שני גופים : $m_1 = 4\text{kg}$, $m_2 = 3\text{kg}$
 הגופים קשורים על ידי חוט וגלגלת אידאלית ומונחים על מישור משופע בעל זווית $\alpha = 30^\circ$
 מקדמי החיכוך בין הגופים הם : $\mu_k = \mu_s = 0.4$
 מקדמי החיכוך עם המישור הם : $\mu_k = \mu_s = 0.3$
 כוח אופקי F פועל על m_2 .

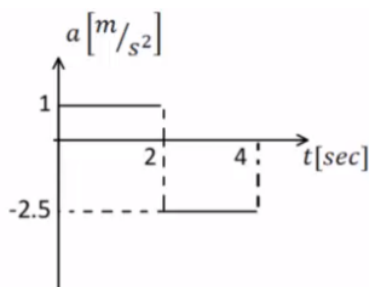
- א. מהו F המקסימלי כך שהגופים יישארו במנוחה?
 ב. אם $F = 40\text{N}$ מהי תאוצת הגופים?

**32) זריקה אופקית בהשפעת רוח***

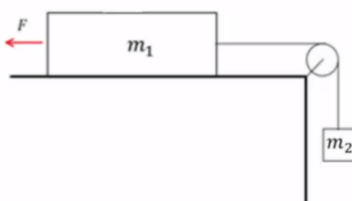
- כדור נזרק מגג בניין גבוה מאוד שגובהו 80 מטרים.
 הכדור נזרק אופקית במהירות של 50 מטר לשנייה.
 2 שניות לאחר הזריקה מתחילה לנשוב רוח שמפעילה כוח F קבוע ואופקי בכיוון המנוגד למהירות ההתחלתית.
 מסת הכדור היא 500 גרם.

א. ענה :

- i. האם הרוח משפיעה על הזמן שלוקח לכדור להגיע לקרקע?
 ii. האם הרוח משפיעה על מהירות הפגיעה של הכדור בקרקע?
 ב. נתון שהחבילה פוגעת בקרקע בזווית של 32 מעלות עם האנך לקרקע.
 i. חשב את גודלו של הכוח F.
 ii. שרטט גרפים של רכיבי המהירות כתלות בזמן עד לפגיעה בקרקע.
 ג. מהי הסטייה של הכדור בפגיעתו בקרקע בעקבות הרוח?

33) מסה על שולחן מחוברת למסה תלויה וכוח*

- המערכת שמתוארת בתרשים משוחררת ממנוחה ונעה ימינה. הזניחו את מסת החוט ואת כל כוחות החיכוך. כעבור 2 שניות נקרע החוט והכוח F ממשיך לפעול. נתון : $m_1 = 6\text{kg}$, $F = 15\text{N}$
 הגרף באיור מתאר את התאוצה של m_1 כפונקציה של הזמן עבור 4 השניות הראשונות של התנועה. הכיוון החיובי הוא ימינה.



- א. עבור 2 השניות הראשונות של התנועה :
 i. שרטטו את הכוחות הפועלים על כל גוף.
 ii. רשמו את המיקום כתלות בזמן של m_1 .
 iii. חשבו את m_2 ואת המתיחות בחוט.

- ב. האם m_1 שינתה את כיוון תנועתה במהלך 4 השניות הראשונות? נמקו אם כן או לא. במידה וכן מצא את הזמן והמרחק בו התרחש השינוי.
- ג. שרטטו את המהירות כתלות בזמן עבור m_1 ב-4 השניות של התנועה.
- ד. אם המשטח לא היה חלק, מהו מקדם החיכוך הסטטי המינימלי עבורו המערכת הייתה נשארת במנוחה?

34 חבילת סיוע לצוות רפואי



מסוק נשלח להטיל מהאוויר חבילה המכילה ציוד חיוני לצוות רפואי שנמצא על הקרקע. מסת החבילה 15 ק"ג ובעת הטלתה המסוק

$$v_0 = 198 \frac{\text{km}}{\text{hr}}$$

טס אופקית במהירות: בגובה 90 מטר מעל הקרקע. 2 שניות אחרי תחילת נפילתה של החבילה החלה לנשוב רוח

שהפעילה על החבילה כוח אופקי F קבוע בכיוון המנוגד ל- v_0 . התייחסו לחבילה כאל גוף נקודתי.

הניחו כי פרט לכוח F האוויר אינו מפעיל שום כוח נוסף.

א. האם הרוח (המתבטאת כאן בכוח F קבוע שהחל לפעול 2 שניות לאחר תחילת התנועה) משפיעה על ערכם של:

i. הזמן שלקח לחבילה להגיע לקרקע? נמק.

ii. מהירות הפגיעה של החבילה בקרקע? נמק.

ב. חשבו את הכוח F אם נתון שהחבילה פגעה בקרקע בזווית 45 מעלות ממישור הקרקע האופקי.

ג. שרטטו במערכת צירים משותפת גרף מהירות-זמן של שני רכיבי מהירות החבילה v_x ו- v_y מרגע השחרור ועד הפגיעה בקרקע.

ד. בכמה מטרים הייתה מוסטת נקודת הפגיעה של החבילה בקרקע אילו לא נשבה רוח במהלך תנועתה?

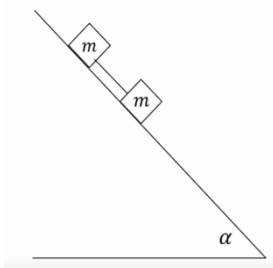
35 שתי מסות מחוברות בחוט על מישור משופע

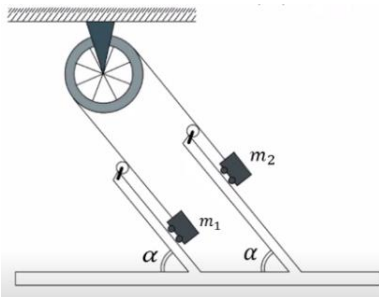
שני גופים בעלי מסה זהה m קשורים בחוט ונמצאים על מדרון משופע לא חלק בעל זווית α .

משחררים את הגופים ממנוחה והם מתחילים להחליק במורד המדרון. מקדם החיכוך הקינטי בין שני הגופים

למשטח הוא μ_k .

מצאו את המתיחות בחוט במהלך התנועה.



**36 מכונת אטווד משופעת**

תלמידים בנו מכונת אטווד "משופעת".

שתי העגלות נעות ללא חיכוך על לוחות משופעים כשהן קשורות בחוט שעובר דרך גלגלת שמסטה זניחה. זווית השיפוע α ניתנת לשינוי.

מסות הגופים הן: $m_1 = 3\text{kg}$, $m_2 = 6\text{kg}$.

בטאו תשובותיכם בסעיפים א', ב', ג' באמצעות α .

א. תלמידה מחזיקה את העגלה m_2 כך שלא תזוז.

מהי המתוחות בחוט?

ב. התלמידה משחררת את המסה m_2 .

מהי תאוצת הגופים ומהי המתוחות בחוט כעת?

ג. החוט יכול לשאת עומס מקסימאלי של 25N .

מהו הערך המירבי של α עבורו החוט לא ייקרע?

ד. בהנחה כי כעת מחובר חוט היכול לעמוד במתיחות גדולות מאוד,

מהי הזווית α עבורה תאוצת הגופים היא מקסימאלית?

ה. מדוע הגדלה נוספת של הזווית מעבר לזווית שמצאתם בסעיף ד', לא

תמשיך ותגדיל את תאוצת הגופים ולא את המתוחות בחוט?

הניחו בסעיפים ד' ו-ה כי המרחק בין הלוחות גם הוא גדול מאוד ביחס לאורך החוט.

תשובות סופיות:

$$a_x = 2 \frac{m}{\text{sec}^2} \quad \text{א.} \quad t = \sqrt{30} \text{ sec} \quad \text{ב.} \quad (1)$$


$$t \approx 6.82 \text{ sec} \quad \text{ב.} \quad \text{א. הגוף לא יכול להיות במנוחה.} \quad (2)$$

ג. סעיף א': נשאר במנוחה, סעיף ב': אין משמעות.

$$\Delta x \approx 37.5 \text{ m} < 50 \text{ m} \quad \text{א. כן,} \quad \Delta x = 52.5 \text{ m} > 50 \text{ m} \quad \text{ב. לא,} \quad (3)$$

$$x(t=4) = 24 \text{ m} \quad \text{א.} \quad x_F = 60 \text{ m} \quad \text{ב.} \quad (4)$$

$$T = 6300 \text{ N} \quad \text{ג.} \quad (5)$$



$$m_{\text{Dani}} = 60 \text{ kg} \quad \text{א.} \quad m_{\text{Dani}} = 78 \text{ kg} \quad \text{ג.} \quad \text{ב. כמו סעיף א'.} \quad (6)$$

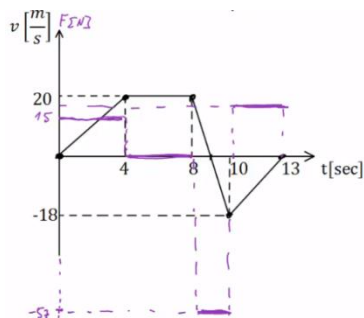
$$m_{\text{Dani}} = 42 \text{ kg} \quad \text{ד.} \quad \text{ה. } 0$$

$$m_{\text{Yossi}} = 30 \text{ kg} \quad (7)$$

$$v(t) = \begin{cases} \frac{4}{5}t & 0 \leq t \leq 3 \\ \frac{12}{5} + \frac{6}{5}(t-3) & 3 \leq t \leq 6 \\ 6 - \frac{2}{5}(t-6) & 6 \leq t \leq 8 \end{cases} \quad \text{ב.} \quad a = \begin{cases} \frac{4}{5} \frac{m}{\text{sec}^2} & 0 < t < 3 \\ \frac{6}{5} \frac{m}{\text{sec}^2} & 3 < t < 6 \\ -\frac{2}{5} & 6 < t < 8 \end{cases} \quad \text{א.} \quad (8)$$

$$x(t) = \begin{cases} \frac{2}{5}t^2 & 0 \leq t \leq 3 \\ \frac{18}{5} + \frac{12}{5}(t-3) + \frac{1}{2} \cdot \frac{6}{5}(t-3)^2 & 3 \leq t \leq 6 \\ \frac{81}{5} + 6(t-6) + \frac{1}{2} \left(-\frac{2}{5} \right) (t-6)^2 & 6 \leq t \leq 8 \end{cases} \quad \text{ג.}$$

$$\text{שקול הכוחות: } \sum F = 18 \text{ N}, \quad \text{גרף:} \quad (9)$$



(10) א. $m_{\min} = 1.5\text{kg}$ ב. $a = 2.5 \frac{\text{m}}{\text{sec}^2}$ ג. $t \approx 1.55\text{sec}$

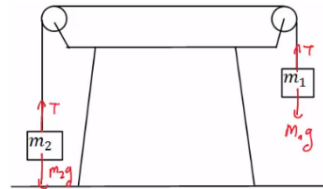
ד. $v_1(t=1.55) \approx 3.87 \frac{\text{m}}{\text{sec}} \hat{y}$, $v_2(t=1.55) \approx 3.87 \frac{\text{m}}{\text{sec}} \hat{x}$

(11) א. תאוצה: $a = 5 \frac{\text{m}}{\text{sec}^2}$, מתיחות: $T = 15\text{N}$. ב. תאוצה: $a = 3 \frac{\text{m}}{\text{sec}^2}$, מתיחות: $T = 15\text{N}$.

(12) א. תאוצה: $a \approx 6.67 \frac{\text{m}}{\text{sec}^2}$, מתיחות: $T = 46.68\text{N}$.

ב. תאוצה: $a \approx 4.67 \frac{\text{m}}{\text{sec}^2}$.

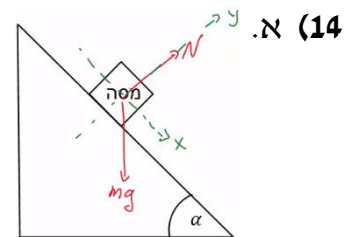
(13) א. ב. $a = 5 \frac{\text{m}}{\text{sec}^2}$ ג. m_1 תרד כלפי מטה.



ד. $t = \sqrt{\frac{4}{5}} \text{sec}$ ה. $v(t=0.89) \approx 4.47 \frac{\text{m}}{\text{sec}}$

ב. $a_x = g \sin \alpha$ ג. מיקום-זמן: $x(t) = \frac{1}{2} g \sin \alpha \cdot t^2$

מהירות-זמן: $v(t) = g \sin \alpha \cdot t$



(15) א. תתחיל להחליק. ב. הזמן: $t \approx 0.94\text{sec}$, המהירות: $v(t=0.94) \approx 6 \frac{\text{m}}{\text{sec}}$.

(16) א. $a = -g(\mu_k \cos 30^\circ + \sin 30^\circ) \approx -6.73 \frac{\text{m}}{\text{sec}^2}$ ב. $x(t) = 0 + 20 \cdot t - \frac{6.73}{2} \cdot t^2$

ג. $t \approx 2.97\text{sec}$ ד. לא. ה. $t = 6.24\text{sec}$

(17) א. לכיוון המסה הגדולה יותר. ב. $a \approx 2.61 \frac{\text{m}}{\text{sec}^2}$

ג. סטטי, המערכת בתנועה. ד. $a \approx 1.7 \frac{\text{m}}{\text{sec}^2}$

(18) א. בכיוון m_2 . ב. $a \approx 0.98 \frac{\text{m}}{\text{sec}^2}$ ג. בכיוון m_1 , סטטי. ד. אין.

(19) א. תאוצה: $a = 6 \frac{\text{m}}{\text{sec}^2}$, מתיחות: $T_{m_1} = 56\text{N}$, $T_{m_2} = 32\text{N}$. ב. בתנועה.

ג. $a = 5.6 \frac{\text{m}}{\text{sec}^2}$

$$\theta_0 \approx 16.6992^\circ \quad \text{ג.} \quad \theta = 20^\circ \quad \text{ב.} \quad a = \frac{F}{m}(\cos\theta + \mu_k \sin\theta) - \theta_k g \quad \text{א. (20)}$$

$$\text{ב. לא.} \quad \text{א. גודל: } a_x = g \tan \alpha, \text{ כיוון: חיובי. (21)}$$

$$F = \mu_s (m_1 + m_2) g = 28\text{N} \quad \text{(22)}$$


$$x(t) = \frac{1}{2} \cdot \frac{1}{2} \cdot t^2, \quad v(t) = \frac{1}{2} \cdot t \quad \text{ב.} \quad x(t) = 20 \cdot t - \frac{2}{2} t^2, \quad v(t) = 20 - 2 \cdot t \quad \text{א. (23)}$$

$$v(t=8) = 4 \frac{\text{m}}{\text{sec}} \quad \text{ג.}$$

$$a_{\min} = \frac{g}{\mu_s} \quad \text{(24)}$$

$$\vec{N}_{2 \rightarrow 1} = 6\text{N}^{\hat{x}} \quad \text{ג.} \quad N_{1 \rightarrow 2} = 6\text{N} \quad \text{ב.} \quad a = 2 \frac{\text{m}}{\text{sec}^2} \quad \text{א. (25)}$$

$$h_{\max} = 1.78\text{m} \quad \text{ב.} \quad h_{\max} = 3\text{m} \quad \text{א. (26)}$$



$$\sum F_z = N - mg \cos 30^\circ, \quad \sum F_y = mg \sin 30^\circ, \quad \sum F_x = 0 \quad \text{א. (27)}$$

$$v_y(t_B) \approx 7.07 \frac{\text{m}}{\text{sec}} \quad \text{ד.} \quad v_0 = \sqrt{2} \frac{\text{m}}{\text{sec}} \quad \text{ג.} \quad \text{ב. פרבולה.}$$

$$m_{B\max} = \frac{(m_A + m_C) \mu_s \cos \alpha}{1 + \sin \alpha - \mu_s \cos \alpha} \quad \text{א. (28)}$$

$$a = g(\mu_s \cos \alpha - \sin \alpha), \quad T = g(m_A + m_C) \mu_s \cos \alpha \quad \text{ב.}$$

$$a_C = (\mu_k \cos \alpha - \sin \alpha) g, \quad a_B = g \frac{(m_B - \mu_k m_C \cos \alpha - m_A \sin \alpha)}{m_A + m_B} \quad \text{ג.}$$

$$\mu_s \geq 0.224 \quad \text{ב.} \quad N_B = 0.518\text{mg}, \quad N_A = 0.732\text{mg} \quad \text{א. (29)}$$

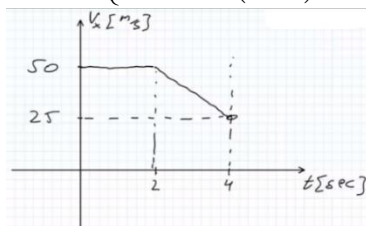
$$F_{\max} = \frac{2\mu_s mg}{\cos \alpha - 2\mu_s \sin \alpha} \quad \text{ג.} \quad f_s = \frac{F \cos \alpha}{2} \quad \text{ב.} \quad a = \frac{F \cos \alpha}{2m} \quad \text{א. (30)}$$

$$a_1 = 22.2 \frac{\text{m}}{\text{sec}^2}, \quad a_2 = 3.75 \frac{\text{m}}{\text{sec}^2} \quad \text{ה.} \quad a \approx 2.17 \frac{\text{m}}{\text{sec}^2} \quad \text{ד.}$$

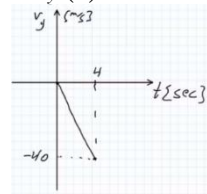
$$a = 1.81 \frac{\text{m}}{\text{sec}^2} \quad \text{ב.} \quad F_{\max} = 31.05\text{N} \quad \text{א. (31)}$$

$$F = 6.25\text{N} \quad \text{i.} \quad \text{ii. משפיעה.} \quad \text{א. i. אינה משפיעה. (32)}$$

$$v_x(t) = \begin{cases} 50 & 0 < t < 2 \\ 50 - 12.5(t-2) & 2 < t < 4 \end{cases}$$



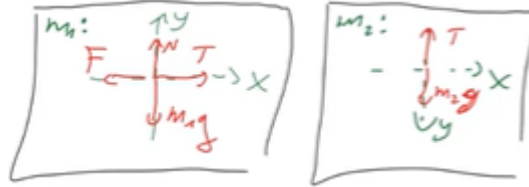
$$v_y(t) = -10 \cdot t \quad \text{ii.}$$



$$\sigma_x = 25\text{m} \quad \text{ג.}$$

$$x(t) = \frac{1}{2}t^2 \quad \text{.ii}$$

33 א.י.

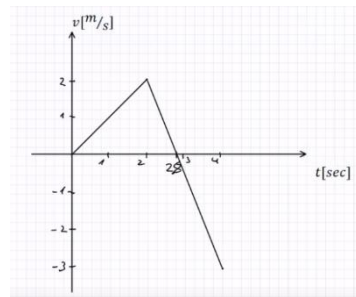


$$T = 21\text{N}, m_2 = 2.33\text{kg} \quad \text{.iii}$$

ב. כן, מכיוון שהשטח השלילי מתחת לגרף גדול מהשטח החיובי המהיר תשנה כיוון.

שינוי הכיוון: $x = 2.8\text{m}$, $t = 2.8\text{sec}$.

$$\mu_{s \min} = 0.25 \quad \text{.ד}$$

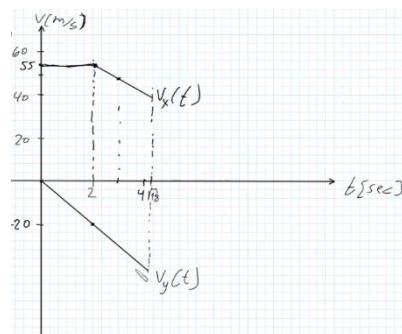


ג.

$$F \approx 84.1\text{N} \quad \text{.ב}$$

34 א.י. לא משפיעה. ii משפיעה.

$$\Delta x = 14\text{m} \quad \text{.ד}$$



ג.

$$T = 0 \quad \text{(35)}$$

$$\alpha_{\max} = 90^\circ \quad \text{.ד}$$

$$\alpha_{\max} = 38.7^\circ \quad \text{.ג}$$

$$a = 3.35 \sin \alpha \quad \text{.ב}$$

$$T = 30 \sin \alpha \quad \text{(36)}$$

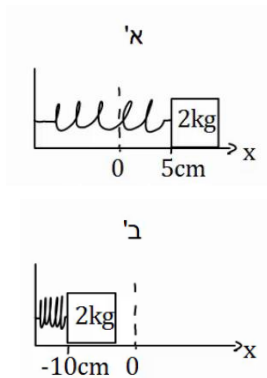
ה. המסות יתנתקו מהמשטח ויהיו תלויות אנכית, התאוצה תישאר אותו דבר כמו בזווית של 90° .

הכוח האלסטי - קפיץ:

שאלות:

1 דוגמה 1

גוף בעל מסה של 2 ק"ג מחובר לקפיץ בעל קבוע קפיץ: $k = 50 \frac{N}{m}$.



בין הגוף למשטח אין חיכוך.

א. מושכים את הגוף למרחק 5 ס"מ מהנקודה בה הקפיץ רפוי ומשחררים אותו. מהי תאוצת הגוף (גודל וכיוון)?

ב. דוחפים את הגוף למרחק 10 ס"מ מהנקודה בה הקפיץ רפוי ומשחררים אותו.

מהי תאוצת הגוף (גודל וכיוון)?

כעת נתון כי בין הגוף למשטח קיים חיכוך, ומקדם החיכוך

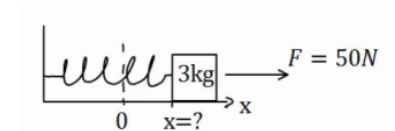
הסטטי הוא: $\mu_s = 0.2$.

ג. מהו המרחק המקסימלי בו ניתן להניח את הגוף קשור

לקפיץ כך שישאר במנוחה?

2 דוגמה 2

גוף בעל מסה של 3 ק"ג מחובר לקפיץ בעל קבוע קפיץ: $k = 100 \frac{N}{m}$.



בין הגוף למשטח אין חיכוך.

על הגוף פועל כוח ימינה שגודלו 50 ניוטון.

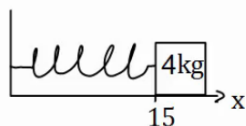
קבע את ראשית הצירים בנקודת הרפיון של הקפיץ.

היכן נמצאת נקודת שיווי המשקל?

(הנקודה בה סכום הכוחות שווה לאפס).

3 דוגמה 3

גוף בעל מסה של 4 ק"ג מחובר לקיר באמצעות קפיץ בעל



קבוע קפיץ: $k = 50 \frac{N}{m}$.

בין הגוף למשטח אין חיכוך.

אורכו הרפוי של הקפיץ הוא 10 ס"מ.

א. חשב את הכוח שמפעיל הקפיץ על הגוף כאשר הגוף במרחק 15 ס"מ מהקיר.

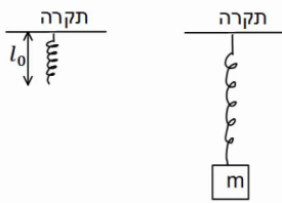
ב. חשב את הכוח שמפעיל הקפיץ על הגוף כאשר הגוף במרחק 6 ס"מ מהקיר.

ג. חשב את תאוצת הגוף בכל נקודה אם על הגוף פועל כוח שגודלו 10 ניוטון

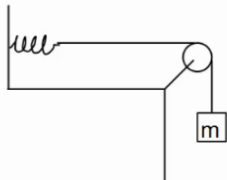
שמאלה.

4) שיטה למדידת קבוע קפיץ

- מסה m תלויה מהתקרה באמצעות קפיץ שאורכו הרפוי הוא l_0 . משחררים את המסה לאט לאט עד אשר היא מגיעה לנקודה בה היא תלויה לבד במנוחה.
- א. מה מיוחד בנקודה זו?
- ב. מודדים את מרחק המסה מהתקרה בנקודה זו. מצא באמצעות מרחק זה והפרמטרים בשאלה את קבוע הקפיץ.

**5) מסה קשורה לחוט שמחובר לקפיץ אופקי**

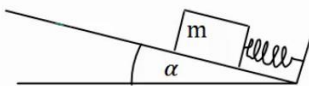
- מסה $m = 5gr$ תלויה באמצעות חוט, העובר דרך גלגלת אידיאלית ומחובר בצידו השני לקפיץ. הקפיץ מחובר לקיר בצורה אופקית. קבוע הקפיץ הוא: $k = 10 \frac{N}{m}$.



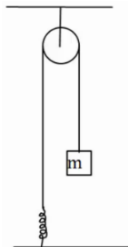
- א. משחררים את המסה בנקודה בה היא נשארת במנוחה. מצא את התארכות הקפיץ.
- ב. מושכים את המסה 5 ס"מ נוספים ומשחררים. מהי תאוצת המסה ברגע השחרור?

6) קפיץ בשיפוע

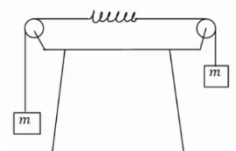
- מסה m נמצאת במנוחה על מישור משופע בעל זווית α . מצד המסה מחובר קפיץ בעל קבוע קפיץ k . אין חיכוך בין המסה למשטח. בכמה מכוון הקפיץ ממצבו הרפוי? התייחס לפרמטרים בשאלה כנתונים.

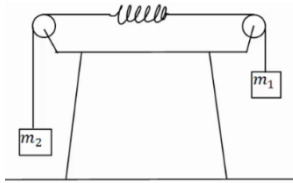
**7) מסה מחוברת לקפיץ דרך גלגלת בתקרה**

- מסה m מחוברת לקפיץ אידיאלי (חסר מסה) דרך גלגלת אידיאלית המחוברת לתקרה. הקפיץ מחובר לקרקע וקבוע הקפיץ הוא k . מצא את התארכות הקפיץ אם נתון שהמסה בשיווי משקל.

**8) שתי מסות משני צידי השולחן וקפיץ באמצע**

- במערכת הבאה שתי מסות זהות m תלויות משני צידי השולחן באמצעות חוטים וגלגלות אידיאליים. באמצע החוט ישנו קפיץ בעל קבוע קפיץ k . מצא את התארכות הקפיץ.



**9) שתי מסות משני צידי השולחן וקפיץ באמצע בתאוצה**

במערכת הבאה שתי מסות שונות: $m_1 = 3\text{kg}$, $m_2 = 1\text{kg}$, תלויות משני צידי השולחן באמצעות חוטים וגלגלות אידיאליים.

באמצע החוט ישנו קפיץ חסר מסה בעל קבוע קפיץ: $k = 20 \frac{\text{N}}{\text{m}}$.

הנח כי אורך הקפיץ קבוע במהלך התנועה.

א. מצא את תאוצת המערכת.

ב. מצא את התארכות הקפיץ.

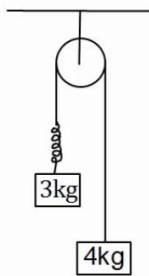
10) מסה תלויה ומתיחה

מסה תלויה במנוחה מהתקרה באמצעות קפיץ אידיאלי.

נתון: $m = 2\text{kg}$, $k = 20 \frac{\text{N}}{\text{m}}$.

א. מהי תאוצת המסה אם מושכים את המסה 5 ס"מ כלפי מטה?

ב. מהי תאוצת המסה אם מרימים את המסה 2 ס"מ כלפי מעלה?

**11) מסות תלויות מהתקרה עם קפיץ בתאוצה**

במערכת הבאה שתי מסות תלויות מהתקרה באמצעות גלגלת אידיאלית.

בין המסות יש קפיץ חסר מסה בעל קבוע קפיץ: $k = 50 \frac{\text{N}}{\text{m}}$.

הנח כי אורך הקפיץ קבוע במהלך התנועה.

א. מהי תאוצת המסות?

ב. מהי ההתארכות של הקפיץ?

12) קפיץ במכונית נוסעת

מסה $m = 5\text{kg}$ נמצאת על רצפת מכונית.

המסה מחוברת באמצעות קפיץ חסר מסה לצד המכונית, ויכולה לנוע על הרצפה ללא חיכוך.

קבוע הקפיץ הוא: $k = 30 \frac{\text{N}}{\text{m}}$.

הנח שאורך הקפיץ קבוע.

א. מהי התארכות הקפיץ אם המכונית נוסעת במהירות קבועה?

ב. מהי ההתארכות בקפיץ אם המכונית נעה בתאוצה קבועה של 2 מטר

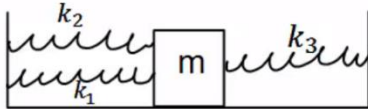
לשנייה בריבוע ימינה? ציין האם הקפיץ נמתח או מתכווץ.

ג. מהי ההתארכות בקפיץ אם המכונית נעה בתאוצה קבועה של 3 מטר

לשנייה בריבוע שמאלה? ציין האם הקפיץ נמתח או מתכווץ.

13) מסה עם שלושה קפיצים

שלושה קפיצים מחוברים למסה $m = 2\text{kg}$, כפי שנראה באיור. אין חיכוך בין המסה לרצפה.

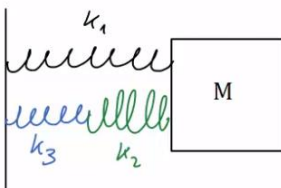


נתון כי: $k_1 = 3 \frac{\text{N}}{\text{m}}$, $k_2 = 5 \frac{\text{N}}{\text{m}}$, $k_3 = 12 \frac{\text{N}}{\text{m}}$.

הנח כי כל הקפיצים רפויים באותה הנקודה. מהי תאוצת המסה כאשר היא נמצאת במרחק 20 ס"מ מנקודת שיווי המשקל?

14) שלושה קפיצים שוב

באיור הבא המסה $m = 4\text{kg}$ מחוברת לשלושה קפיצים בעלי קבועי קפיץ שונים. הנח שכל הקפיצים רפויים כאשר המסה נמצאת ב- $x = 0$.



מהי תאוצת המסה כאשר מיקומה הוא: $x = 0.2\text{m}$.

אם קבועי הקפיצים הם: $k_1 = 3 \frac{\text{N}}{\text{m}}$, $k_2 = 5 \frac{\text{N}}{\text{m}}$, $k_3 = 12 \frac{\text{N}}{\text{m}}$.

תשובות סופיות:

$$(1) \quad \text{א. גודל: } -1.25 \frac{\text{m}}{\text{sec}^2}, \text{ הכיוון חיובי. ב. גודל: } 2.5 \frac{\text{m}}{\text{sec}^2}, \text{ הכיוון חיובי.}$$

$$\text{ג. } x = 8 \text{ cm}$$

$$(2) \quad x = \frac{1}{2} \text{ m}$$

$$(3) \quad \text{א. } F = -2.5 \text{ N} \quad \text{ב. } F = 2 \text{ N} \quad \text{ג. סעיף א': } a = -3.13 \frac{\text{m}}{\text{sec}^2}, \text{ סעיף ב': } a = -2 \frac{\text{m}}{\text{sec}^2}.$$

$$(4) \quad \text{א. נקודת שיווי משקל. ב. } k = \frac{mg}{d - l_0}$$

$$(5) \quad \text{א. } \Delta x = 5 \text{ cm} \quad \text{ב. } a = -10 \frac{\text{m}}{\text{sec}^2}$$

$$(6) \quad |\Delta x| = \frac{mg \sin \alpha}{k}$$

$$(7) \quad \Delta x = \frac{mg}{k}$$

$$(8) \quad |\Delta x| = \frac{mg}{k}$$

$$(9) \quad \text{א. } a = 5 \frac{\text{m}}{\text{sec}^2} \quad \text{ב. } \Delta x = \frac{3}{4} \text{ m}$$

$$(10) \quad \text{א. } a = -0.5 \frac{\text{m}}{\text{sec}^2} \quad \text{ב. } a = 0.2 \frac{\text{m}}{\text{sec}^2}$$

$$(11) \quad \text{א. } a = \frac{10}{7} \frac{\text{m}}{\text{sec}^2} \quad \text{ב. } \Delta x \approx 0.69 \text{ m}$$

$$(12) \quad \text{א. } \Delta x = 0 \quad \text{ב. } |\Delta x| = \frac{1}{3} \text{ m, מתארך. ג. } |\Delta x| = \frac{1}{2} \text{ m, מתכווץ.}$$

$$(13) \quad a = -2 \frac{\text{m}}{\text{sec}^2}$$

$$(14) \quad a \approx 0.326 \frac{\text{m}}{\text{sec}^2}$$

פיזיקה להנדסאי בניין

פרק 10 - תנועה הרמונית


תוכן העניינים

112	1. תנועה מחזורית
113	2. תנועה הרמונית
117	3. קפיץ אנכי
118	4. תנועה הרמונית בתוספת של כוח קבוע
119	5. אנרגיה בתנועה הרמונית
120	6. מטוטלת מתמטית
(ללא ספר)	7. סיכום הפרק
(ללא ספר)	8. הוכחה לנוסחאות דרך תנועה מעגלית
121	9. תרגילים נוספים

תנועה מחזורית:

שאלות:

1) כדור נע בין שני קירות



$$v_0 = 2 \frac{\text{m}}{\text{sec}}$$

כדור נע בין שני קירות במהירות

התנגשות הכדור עם הקירות היא אלסטית.

המרחק בין הקירות הוא $L = 6\text{m}$.

א. חשב את זמן המחזור של התנועה.

ב. דני ראה כי מיקום הגוף

ב- $t = 1\text{sec}$ הוא 2m מהקיר השמאלי.

דני חישב כמה זמן ייקח לכדור לפגוע בקיר הימני ולחזור לאותה הנקודה.

דני סימן את הזמן הזה ב- \tilde{T} , חשב מהו \tilde{T} .

ג. הסבר מדוע \tilde{T} הוא אינו זמן המחזור של התנועה, והסבר כיצד היה צריך

דני לבצע את החישוב על מנת לקבל את זמן המחזור הנכון.

תשובות סופיות:

1) א. $T = 6\text{sec}$ ב. $\tilde{T} = 4\text{sec}$ ג. ראה סרטון.

תנועה הרמונית:

שאלות:

(1) דוגמה לחישוב המיקום

גוף מחובר לקפיץ אופקי המחובר בצידו השני לקיר. הגוף נע הלוך וחזור על שולחן אופקי חסר חיכוך. דפנה מסתכלת על הגוף המתנדנד ומודדת את המרחק בין שתי הקצוות של התנועה.

- מהי אמפליטודת התנועה אם המרחק שמדדה דפנה הוא: 0.4m ?
ברגע מסוים, שהגוף מגיע למרחק המקסימאלי מהקיר, מפעילה דפנה סטופר המתחיל למדוד את הזמן מאפס. דפנה סופרת כל פעם שהגוף חוזר לנקודה שבה התחילה למדוד. דפנה ראתה כי לאחר 5 שניות הגוף הגיע בפעם העשירית בדיוק לנקודת ההתחלה.
- מהו זמן המחזור של התנועה?
- מהי התדירות והתדירות הזוויתית של התנועה?
- קבע את ראשית הצירים במרכז התנועה של הגוף, ורשום משוואה המתארת את מיקום הגוף ביחס לראשית, כתלות בזמן שמראה הסטופר של דפנה.

(2) מציאת המיקום מהזמן

- מסה $m = 3\text{kg}$ קשורה לקפיץ אופקי בעל קבוע קפיץ $k = 10 \frac{\text{N}}{\text{m}}$. מסיטים את המסה מרחק $d = 0.3\text{m}$ בכיוון החיובי מנקודת שיווי המשקל, ומשחררים ממנוחה.
- מהם התדירות וזמן המחזור של התנועה?
 - מהי האמפליטודה של התנועה?
 - רשום נוסחה המתארת את מיקום המסה כתלות בזמן.
 - מהו מיקום המסה ב- $t_1 = 0.4\text{sec}$?

(3) מציאת הזמן מהמיקום

- מסה $m = 2\text{kg}$ קשורה לקפיץ אופקי בעל קבוע קפיץ $k = 30 \frac{\text{N}}{\text{m}}$. מסיטים את המסה מרחק $d = 15\text{cm}$ בכיוון החיובי מנקודת שיווי המשקל, ומשחררים ממנוחה.
- מצא את מיקום המסה כתלות בזמן.
 - מהו מיקום המסה ב- $t_1 = 0.3\text{sec}$ וב- $t_2 = 1.2\text{sec}$?
 - מהו הזמן בו המסה מגיעה אל נקודת שיווי המשקל, ומהו הזמן בו היא מגיעה לקצה השני?
 - מהם הזמנים בהם המסה מגיעה אל $x = 7.5\text{cm}$? מדוע קיימים שניים?

(4) חישוב המהירות

גוף בעל מסה $m = 0.5\text{kg}$ מתנדנד בתנועה הרמונית, כך שמיקומו כתלות בזמן הוא: $x(t) = 0.4 \cos(2t)$, במטרים.

- מהי התדירות הזוויתית והאמפליטודה של התנועה?
- מהי המהירות המקסימאלית של הגוף?
- רשום נוסחה למהירות כתלות בזמן של הגוף.
- מהי מהירות הגוף ב- $t = 2\text{sec}$, ומהי האנרגיה הקינטית שלו באותו הרגע?

(5) חישובי פאזה

דני רואה גוף מתנדנד בתנועה הרמונית בתדירות זוויתית $\omega = 3 \frac{\text{rad}}{\text{sec}}$

ובמשרעת $A = 0.2\text{m}$.

דני התחיל למדוד את הזמן מהרגע בו הגוף נמצא בקצה השלילי.

- רשום ביטוי למיקום כפונקציה של הזמן שמודד דני.
- צייר גרף של המיקום כתלות בזמן שמודד דני.
- מתי היה צריך דני להתחיל למדוד את הזמן אם הוא רוצה שהפונקציה של המיקום תהפוך להיות פונקציית סינוס?

(6) חישוב הפאזה מתנאי התחלה

גוף בעל מסה $m = 2\text{kg}$ מחובר לקפיץ בעל קבוע $k = 4 \frac{\text{N}}{\text{m}}$, ומתנדנד בתנועה

הרמונית על מישור חלק ואופקי.

- מהי התדירות הזוויתית של התנועה?
- מהם הפאזה והאמפליטודה של הגוף, אם ברגע תחילת הזמן הגוף היה

ב- $x(t=0) = 0.2\text{m}$, ובמהירות $v = 6 \frac{\text{m}}{\text{sec}}$ בכיוון השלילי?

- רשום את נוסחאות המיקום והמהירות כתלות בזמן.
- חזור על סעיף ב' אם המיקום ההתחלתי הוא בנקודת שיווי המשקל.

(7) מסה מתנגשת במסה המחוברת לקפיץ

מסה $m = 3\text{kg}$ מחוברת לקפיץ אופקי בעל קבוע קפיץ $k = 9 \frac{\text{N}}{\text{m}}$, ונמצאת על שולחן אופקי חלק. המסה נמצאת במנוחה (הקפיץ רפוי).

מסה זהה נוספת נעה במהירות $v = 12 \frac{\text{m}}{\text{sec}}$ כלפי המסה הנייחת ומתנגשת בה

התנגשות פלסטית. הנח כי זמן ההתנגשות קצר מאוד.

לאחר ההתנגשות שתי המסות נעות בתנועה הרמונית.

א. מהי תדירות התנועה?

ב. מה תנאי ההתחלה של התנועה ההרמונית $(x(t=0), v(t=0))$?

ג. מצא את המיקום כתלות בזמן של המסות מהרגע לאחר ההתנגשות.

תשובות סופיות:

א. $A = 0.2\text{m}$ ב. $T = 0.5\text{sec}$ ג. תדירות: $f = 2 \cdot \frac{1}{\text{sec}}$ (1)

תדירות זוויתית: $\omega \approx 12.57 \frac{\text{rad}}{\text{sec}}$ ד. $x(t) = 0.2 \cos(12.57 \cdot t)$

א. תדירות: $f \approx 0.29 \frac{1}{\text{sec}}$, זמן מחזור: $T \approx 3.44\text{sec}$ ב. $d = 0.3\text{m}$ (2)

ג. $x(t) = 0.3 \cos(1.83 \cdot t)$ ד. $x(t_1) \approx 0.22\text{m}$

א. $x(t) = 0.15 \cos(3.87 \cdot t)$ ב. $x(t_1) \approx 0.06$, $x(t_2) = -0.01\text{m}$ (3)

ג. שיווי משקל: $t_3 \approx 0.41\text{sec}$, הקצה השני: $t_4 \approx 0.82\text{sec}$

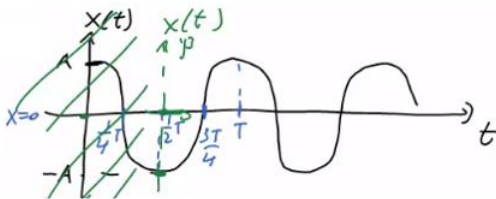
ד. $\tilde{t}_1 \approx 0.27\text{sec}$, $\tilde{t}_2 \approx 1.35\text{sec}$

א. $A = 0.4\text{m}$, $\omega = 2 \frac{\text{rad}}{\text{sec}}$ ב. $|v_{\max}| = 0.8 \frac{\text{m}}{\text{sec}}$ (4)

ג. $v(t) = -0.8 \cdot \sin(2 \cdot t) \frac{\text{m}}{\text{sec}}$ ד. $v(t=2) \approx 0.61 \frac{\text{m}}{\text{sec}}$, $E_k \approx 0.09\text{J}$

א. $x(t) = 0.2 \cos(3 \cdot t + \pi)$ ב. שרטוט: (5)

ג. $t_0 = 1.57\text{sec}$



א. $\omega = \sqrt{2} \frac{\text{rad}}{\text{sec}}$ ב. $\varphi \approx 1.52\text{rad}$, $A \approx 3.94\text{m}$ (6)

ג. $x(t) = 3.94 \cos(\sqrt{2} \cdot t + 1.52)$, $v(t) = -5.57 \sin(\sqrt{2} \cdot t + 1.52)$

ד. $\varphi = \frac{\pi}{2}$, $A \approx 4.24\text{m}$

א. $\omega = \sqrt{\frac{3}{2}} \frac{\text{rad}}{\text{sec}}$ ב. $x(t=0) = 0$, $v(t=0) = -6 \frac{\text{m}}{\text{sec}}$ (7)

ג. $x(t) = 4.90 \cos\left(\sqrt{\frac{3}{2}} \cdot t + \frac{\pi}{2}\right)$

קפיץ אנכי:

שאלות:

1) קפיץ אנכי ותוספת מסה

גוף בעל מסה $m = 1\text{kg}$ תלוי מהתקרה באמצעות קפיץ אנכי בעל

$$\text{קבוע } k = 50 \frac{\text{N}}{\text{m}} \text{ ואורך רפוי } l_0 = 30\text{cm}.$$

- א. מצא את המרחק של נקודת שיווי המשקל מהתקרה.
 ב. מעמיסים על הקפיץ מסה נוספת $m = 2\text{kg}$ המחוברת למסה הראשונה, מה תהיה נקודת שיווי המשקל החדשה?
 כעת נניח כי מושכים את המסה הכוללת מנקודת שיווי המשקל כלפי מטה מרחק של $d = 8\text{cm}$ ומשחררים אותה ממנוחה.
 ג. מה תדירות התנועה של המסה?
 ד. מצא את המיקום כתלות בזמן אם הכיוון החיובי של הציר האנכי הוא כלפי מטה.
 ה. חזור על סעיף ד', אם הכיוון החיובי של הציר הוא כלפי מעלה.

2) מסה משוחררת מנקודת רפיון

מסה $m = 30\text{gr}$ תלויה מהתקרה באמצעות קפיץ אנכי בעל קבוע $k = 1.5 \frac{\text{N}}{\text{m}}$.

- המסה מוחזקת באוויר בנקודה שבה הקפיץ רפוי ומשוחררת ממנוחה.
 א. מצא את נקודת שיווי המשקל.
 ב. מצא את המיקום כתלות בזמן, אם הכיוון החיובי כלפי מטה.

תשובות סופיות:

$$(1) \quad \text{א. } 0.5\text{m} \quad \text{ב. } 0.9\text{m} \quad \text{ג. } \omega \approx 4.08 \frac{\text{rad}}{\text{sec}} \quad \text{ד. } y(t) = 0.08 \cos(4.08 \cdot t)$$

$$\text{ה. } y(t) = 0.08 \cos(4.08 \cdot t + \pi)$$

$$(2) \quad \text{א. } y_0 = \frac{\text{mg}}{k} \quad \text{ב. } y(t) = 0.2 \cos(7.07 \cdot t + \pi)$$

תנועה הרמונית בתוספת של כוח קבוע:

שאלות:

(1) תוספת של כוח קבוע

גוף בעל מסה $m = 0.2\text{kg}$ מחובר לקפיץ אופקי בעל קבוע $k = 4 \frac{\text{N}}{\text{m}}$.

הגוף נמצא במנוחה בנקודה שבה הקפיץ רפוי.

ב- $t = 0$ מתחיל לפעול על הגוף כוח קבוע בכיוון

החיובי $F = 0.1\text{N}$.

א. מצא את נקודת שיווי המשקל החדשה.

ב. מהי תדירות התנועה?

ג. מהם תנאי ההתחלה של הבעיה?

ד. מצא את המיקום כתלות בזמן.

(2) כוח מפסיק בפתאומיות

גוף מחובר לקפיץ אופקי בעל קבוע קפיץ $k = 5 \frac{\text{N}}{\text{m}}$.

הגוף נצפה מתנדנד בתנועה הרמונית באמפליטודה $A = 0.3\text{m}$.

ידוע שעל הגוף פועל כוח קבוע $F = 2\text{N}$ בכיוון החיובי.

א. מצא היכן תהיה נקודת שיווי המשקל,

במידה והכוח יפסיק לפעול בפתאומיות.

ב. מצא מה תהיה אמפליטודת התנועה במידה

והכוח יפסיק לפעול, ברגע שהגוף נמצא בקצה החיובי של התנועה.

ג. חזור על סעיף ב' עבור הקצה השלילי.

ד. חזור על סעיף ב' אם הכוח הפסיק כאשר הגוף במרכז התנועה,

ומהירותו ברגע זה היא $2 \frac{\text{m}}{\text{sec}}$.

תשובות סופיות:

$$(1) \quad \text{א. } 0.025\text{m} \quad \text{ב. } \omega = 4.47 \frac{\text{rad}}{\text{sec}} \quad \text{ג. } x(t=0) = -x_0, v(t=0) = 0$$

$$\text{ד. } x(t) = 0.025(4.47 \cdot t + \pi)$$

$$(2) \quad \text{א. } x_0 = -0.4\text{m} \quad \text{ב. } \tilde{A} = 0.7\text{m} \quad \text{ג. } \tilde{A} = 0.1$$

אנרגיה בתנועה הרמונית:

שאלות:

1) חישובי אנרגיה

מסה $m = 2\text{kg}$ מחוברת לקפיץ אופקי בעל קבוע $k = 50 \frac{\text{N}}{\text{m}}$.

מושכים את המסה מרחק $d = 0.2\text{m}$ מנקודת שיווי המשקל, ומשחררים אותה ממנוחה.

- רשום את מיקום המסה כתלות בזמן מרגע השחרור.
- רשום את מהירות המסה כתלות בזמן מרגע השחרור.
- חשב את מיקום ומהירות המסה ברגעים $t = 0, 1, 2\text{sec}$.
- חשב את האנרגיה הקינטית, האנרגיה הפוטנציאלית והאנרגיה הכללית של המסה, בכל אחד מן הרגעים. הראה כי האנרגיה הכללית נשמרת.

תשובות סופיות:

$$1) \quad \text{א. } x(t) = 0.2 \cos(5 \cdot t) \quad \text{ב. } v(t) = 1 \cdot \sin(5 \cdot t)$$

$$\text{ג. } x(t=1) \approx 0.057\text{m}, v(t=1) \approx 0.960 \frac{\text{m}}{\text{sec}}$$

$$x(t=2) \approx -0.168\text{m}, v(t=2) \approx 0.544 \frac{\text{m}}{\text{sec}}; x(t=0) \approx 0.2\text{m}, v(t=0) \approx 0$$

$$\text{ד. } t=0: E_k = 0, U = 1; t=1: E_k = 0.922\text{J}, U = 0.081\text{J}; t=2: E_k = 0.296\text{J}, U = 0.706\text{J}$$

מטוטלת מתמטית:

שאלות:

1) חישוב אורך חוט

מצא מה צריך להיות אורך החוט של מטוטלת, על מנת שהזמן שייקח למסה לעבור מקצה אחד לקצה השני יהיה חצי שנייה.

תשובות סופיות:

1) $l \approx 0.25\text{m}$

תרגילים נוספים:

שאלות:

(1) תרגיל 1

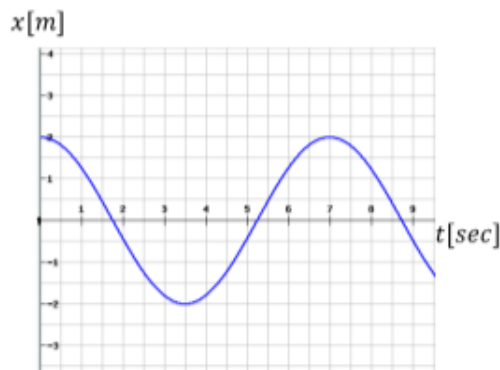
גוף בעל מסה $m = 20\text{gr}$ מחובר לקפיץ אופקי בעל קבוע $k = 4 \frac{\text{N}}{\text{m}}$, וחופשי לנוע ללא חיכוך. הגוף מתנדנד בתנועה הרמונית כך שהמרחק בין הקצוות של התנועה הוא: $d = 10\text{cm}$.

- מהי האפליטודה של התנועה?
- מהי התדירות הזוויתית?
- מהו זמן המחזור?
- רשום נוסחה למיקום הגוף כתלות בזמן, אם הזמן נמדד מהרגע בו הגוף היה בקצה החיובי.
- רשום נוסחה למהירות הגוף כתלות בזמן.

(2) תרגיל 2

גוף בעל מסה $m = 2\text{kg}$ מחובר לקפיץ אופקי בעל קבוע $k = 4 \frac{\text{N}}{\text{m}}$, וחופשי לנוע ללא חיכוך. מושכים את הגוף מנקודת שיווי המשקל למרחק של $d = 0.2\text{m}$ ומשחררים ממנוחה.

- מהי התדירות הזוויתית?
- מהו זמן המחזור?
- מהי האפליטודה של התנועה?
- מהו מיקום הגוף כתלות בזמן מרגע השחרור?
- רשום נוסחה למהירות הגוף כתלות בזמן.
- חזור על כל הסעיפים עבור המקרה בו ברגע השחרור הגוף מקבל דחיפה קטנה המקנה לו מהירות התחלתית $v_0 = 0.1 \frac{\text{m}}{\text{sec}}$.

**תרגיל 3 (3)**

הגרף הבא מתאר את מיקומו כתלות בזמן של גוף הנע בתנועה הרמונית פשוטה.

- מהי אמפליטודת התנועה?
- מהו זמן המחזור?
- מהי התדירות הזוויתית?
- מהי הפאזה?
- רשום נוסחה למהירות כתלות בזמן.

תרגיל 4 (4)

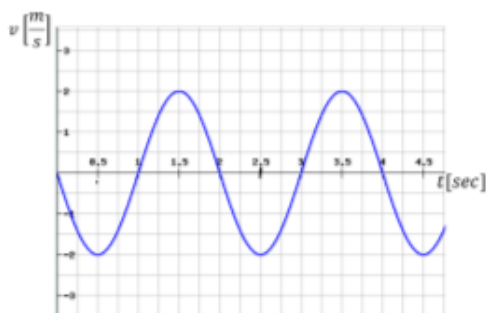
גוף בעל מסה $m = 1\text{kg}$ מחובר לקפיץ אופקי בעל קבוע קפיץ $k = 3 \frac{\text{N}}{\text{m}}$.

הגוף משוחרר ממנוחה במרחק $d = 0.3\text{m}$ מנקודת שיווי המשקל.

- רשום נוסחה למהירות הגוף כתלות בזמן.
- מצא את מיקום הגוף ב- $t = 3\text{sec}$.
- מהי מהירות הגוף ב- $t = 3\text{sec}$.
- מהי תאוצת הגוף ב- $t = 3\text{sec}$.

תרגיל 5 (5)

מהירותו של גוף המתנדנד בתנועה הרמונית נתונה לפי הגרף הבא:



א. מתי מגיע הגוף לנקודת שיווי המשקל

בפעם הראשונה?

ב. האם תאוצת הגוף ב- $t = 1\text{sec}$

מקסימאלית?

ג. האם ב- $t = 1.5\text{sec}$ האנרגיה

קינטית מרבית?

ד. מהו הכוח ב- $t = 2.5\text{sec}$?

ה. כמה מחזורי תנועה עשה הגוף

ב-4 השניות הראשונות של התנועה?

תרגיל 6 (6)

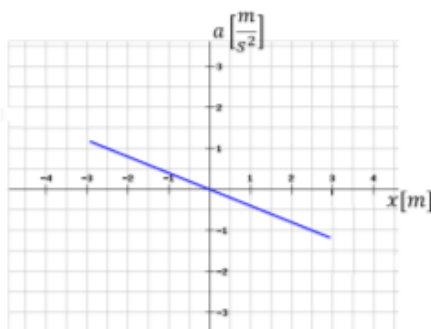
בגרף הבא נתונה התאוצה של גוף כתלות

במיקום של הגוף. מסת הגוף היא $m = 20\text{g}$.

א. האם התנועה היא תנועה הרמונית? נמק.

ב. מהו קבוע הקפיץ?

ג. מהי אמפליטודת התנועה?



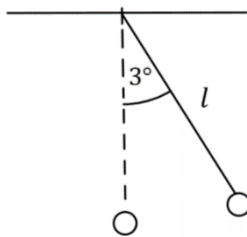
7 תרגיל (7)

גוף בעל מסה $m = 2\text{kg}$ מחובר לקפיץ אופקי בעל קבוע קפיץ $k = 40 \frac{\text{N}}{\text{m}}$.

ב- $t = 0$ מיקום ומהירות הגוף הם: $x = 20\text{cm}$, $v = 0.4 \frac{\text{m}}{\text{sec}}$.

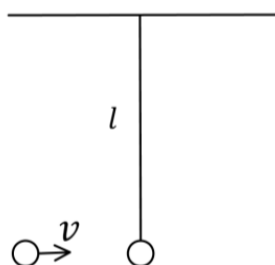
- רשום נוסחה למיקום הגוף כתלות בזמן.
- מתי מיקומו של הגוף הוא 5 ס"מ משמאל לנקודת שיווי המשקל בפעם הראשונה?
- מתי מהירות הגוף היא $0.1 \frac{\text{m}}{\text{sec}}$ בכיוון החיובי?
- מהי התאוצה המקסימאלית של הגוף?

8 תרגיל (8)



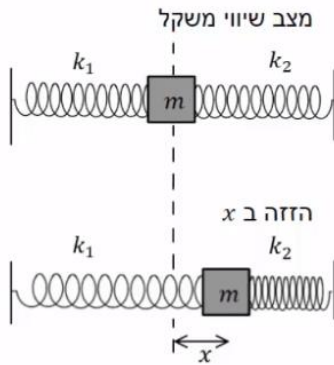
- מטוטלת מתמטית בעלת חוט באורך $l = 1\text{m}$, ומסה $m = 100\text{gr}$ בקצה, משוחררת ממנוחה מזווית של 3° .
- מה תהיה התדירות הזוויתית של התנועה?
 - כמה זמן ייקח למטוטלת להגיע לנקודת שיווי המשקל?
 - מהי מהירות המסה בנקודת שיווי המשקל?
 - בנקודת שיווי המשקל מונחת מסה נוספת $m = 25\text{gr}$, הנמצאת במנוחה. מסת המטוטלת מתנגשת במסה הנוספת התנגשות פלסטית.
 - מתי מהירות הגופים מיד לאחר ההתנגשות?
 - מהי התדירות הזוויתית של התנועה לאחר ההתנגשות?
 - מהי הזווית המקסימאלית אליה תגיע המטוטלת לאחר ההתנגשות?

9 תרגיל (9)



- מטוטלת מתמטית בעלת חוט באורך $l = 0.5\text{m}$, ומסה $m = 50\text{gr}$ בקצה, תלויה במנוחה. מסה $m = 25\text{gr}$ נעה אופקית במהירות $v = 0.6 \frac{\text{m}}{\text{sec}}$ ומתנגשת במסת המטוטלת התנגשות פלסטית.
- מה תהיה התדירות הזוויתית של התנועה לאחר ההתנגשות, בהנחה שהתנדודות קטנות.
 - כמה זמן ייקח למטוטלת להגיע לשיא הגובה?
 - מתי מהירות הגופים מיד לאחר ההתנגשות?
 - מהי הזווית המקסימאלית אליה תגיע המטוטלת?

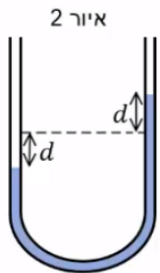
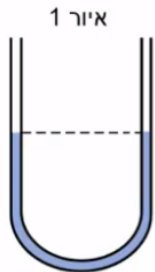
(10) מסה עם קפיצים משני הצדדים



לשני צדדיה של מסה m מחוברים שני קפיצים שקבועי הכוח שלהם הם: k_1 ו- k_2 . הגוף נמצא על משטח חלק. מזיזים את הגוף ימינה מרחק x .

- א. הראה כי כאשר מרפים ממנו הוא ינוע בתנועה הרמונית פשוטה שקבועה הוא: $k_1 + k_2$.
- ב. מהו זמן המחזור של התנועה?

(11) צינור בצורת U



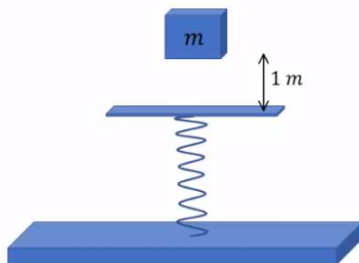
בתוך צינור גלילי בצורת האות U מצוי נוזל בשיווי משקל (איור 1). אורך החלק המלא בנוזל הוא L ושטח החתך לאורך כל הצינור הוא A . צפיפות הנוזל (מסה ליחידת נפח) היא ρ . נושפים בזרוע השמאלית של הצינור כך שפני הנוזל יורדים בשיעור d , ומרפים (איור 2).

- א. תאר במילים את תנועת הנוזל בהנחה שלא פועלים עליו כוחות חיכוך.
- ב. הראה כי כאשר פני הנוזל נמצאים במרחק x ממצב שיווי המשקל פועל על הנוזל כוח מחזיר: $F = -2\rho Agx$. (הדרכה: חשב את מסת הנוזל העודפת בצד הגבוה ומשם את כוח הכובד שהיא מפעילה על שאר הנוזל).
- ג. בהנחה כי $x \ll L$ הראה כי זמן המחזור של התנועה

$$T = \pi \sqrt{\frac{2L}{g}}$$

הוא:

(12) מסה נופלת על קפיץ אנכי



קפיץ אנכי מחובר לקרקע מצידו האחד וללוח אופקי בצידו השני.

קבוע הקפיץ הוא: $400 \frac{N}{m}$. מסה של $m = 2 \text{ kg}$

משוחררת ממנוחה מגובה של מטר אחד מעל הלוח, המסה נופלת נפילה חופשית ונדבקת ללוח. מסת הלוח והקפיץ ניתנות להזנחה.

- א. מהי ההתכווצות המרבית של הקפיץ?
- ב. מהי תדירות תנודות המשקולת?
- ג. מהי משרעת התנודות?

תשובות סופיות:

- (1) א. $A = 0.05\text{m}$ ב. $\omega \approx 14.14 \frac{\text{rad}}{\text{sec}}$ ג. $T \approx 0.444\text{sec}$
 ד. $x(t) = 0.05 \cdot \cos(14.14 \cdot t)$ ה. $v(t) = -0.707 \cdot \sin(14.14 \cdot t)$
- (2) א. $\omega = 1.41 \frac{\text{rad}}{\text{sec}}$ ב. $T \approx 4.44\text{sec}$ ג. $A = 0.2\text{m}$
 ד. $x(t) = 0.2 \cdot \cos(1.41 \cdot t)$ ה. $v(t) = -0.282 \cdot \sin(1.41 \cdot t)$
 ו. $x(t) = 0.212 \cdot \cos(1.41 \cdot t + 0.341)$, $T = 4.44\text{sec}$, $A = 0.212\text{m}$, $\omega = 1.41 \frac{\text{rad}}{\text{sec}}$
 ז. $v(t) = -0.299 \sin(1.41 \cdot t + 0.341)$
- (3) א. $A = 2\text{m}$ ב. $T = 7\text{sec}$ ג. $\omega \approx 0.898 \frac{\text{rad}}{\text{sec}}$ ד. $\varphi = 0$
 ה. $v(t) = -1.80 \cdot \sin(0.898 \cdot t + 0)$
- (4) א. $x(t) = 0.3 \cos(\sqrt{3} \cdot t)$ ב. $x(t=3) \approx 0.14\text{m}$
 ג. $v(t=3) \approx -0.46 \frac{\text{m}}{\text{sec}}$ ד. $a(t=3) = -0.42 \frac{\text{m}}{\text{sec}^2}$
- (5) א. $t = 0.5\text{sec}$ ב. כן. ג. כן. ד. 0 ה. 2
- (6) א. כן. ב. $k = 0.008 \frac{\text{N}}{\text{m}}$ ג. $A \approx 3\text{m}$
- (7) א. $x(t) = 0.22 \cos(\sqrt{20} \cdot t - 0.42)$ ב. $t_1 = 0.5\text{sec}$ ג. $t_1 \approx 0.07\text{sec}$
- (8) א. $\omega = \sqrt{10} \frac{\text{rad}}{\text{sec}}$ ב. $t \approx 0.5\text{sec}$ ג. $v_{\max} = 0.165$ ד. $u = 0.131 \frac{\text{m}}{\text{sec}}$
 ה. $\omega = \sqrt{10} \frac{\text{rad}}{\text{sec}}$ ו. $\theta \approx 2.35^\circ$
- (9) א. $\omega = \sqrt{20} \frac{\text{rad}}{\text{sec}}$ ב. $t \approx 0.35\text{sec}$ ג. $u = 0.2 \frac{\text{m}}{\text{sec}}$ ד. $\theta = 5.12^\circ$
- (10) א. הוכחה. ב. $T = 2\pi \sqrt{\frac{\text{m}}{k_1 + k_2}}$
- (11) א. ראה סרטון. ב. הוכחה. ג. הוכחה.
- (12) א. $\Delta x_{\max} = 0.37\text{m}$ ב. $f = 2.25 \frac{1}{\text{sec}}$ ג. $A \approx 0.32\text{m}$

פיזיקה להנדסאי בניין

פרק 11 - כבידה

תוכן העניינים

126 1. כבידה

כבידה:

רקע:

$$\left(\frac{r_1}{r_2}\right)^3 = \left(\frac{T_1}{T_2}\right)^2 \quad \text{החוק השלישי של קפלר:}$$

$$F = G \frac{m_1 m_2}{r^2} \quad \text{גודל כוח הכבידה:}$$

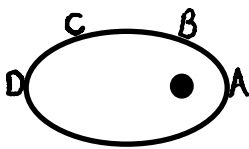
$$U_G = -\frac{GMm}{r} \quad (U_{G(r \rightarrow \infty)} = 0) \quad \text{אנרגיה פוטנציאלית כובדית:}$$

אנרגיה של לוויין במסלול מעגלי

$$E_k = \frac{GMm}{2r} = -\frac{U_G}{2} \quad \text{קינטית:}$$

$$E = -\frac{GMm}{2r} \quad \text{כוללת:}$$

שאלות:



(1) קפלר חוק שני

כוכב לכת מוקף שמש רחוקה במסלול אליפטי. באיזה נקודה מהירות הגוף הכי גדולה ובאיזה הכי קטנה? נמק תשובתך בעזרת החוק השני של קפלר.

(2) קפלר חוק שלישי

לצדק יש ארבעה ירחים. שני הקרובים אליו הם Io ו-Europa. זמן המחזור של Io הוא 1.77 ימים, ורדיוס הקפתו הממוצע את צדק הוא 422,000 ק"מ.

רדיוס ההקפה הממוצע של Europa סביב צדק הוא 671,000 ק"מ.

א. מהו זמן המחזור של Europa?

ב. האם ניתן בעזרת החוק השלישי של קפלר ונתוני שאלה זו למצוא את

זמן המחזור של הירח סביב כדור הארץ, אם רדיוס הקפתו הממוצע

הוא 384,000 ק"מ? נמקו.

3 חוק הכבידה 1

מסת כדור הארץ היא: $5.97 \cdot 10^{24} \text{ kg}$.

מסת הירח היא: $7.3 \cdot 10^{22} \text{ kg}$.

המרחק ביניהם הוא 384,000 ק"מ.

א. מה הכוח שמפעיל כדור הארץ על הירח?

ב. מהי תאוצת הירח?

ג. מה הכוח שהירח מפעיל על כדור הארץ?

ד. מהי תאוצת כדור הארץ?

4 חוק הכבידה 2

2 בני אדם עומדים במרחק 1 מטר זה מזה. מסת הראשון 60 ק"ג ומסת

השני 70 ק"ג.

מה כוח הכבידה שפועל ביניהם, ומה התאוצה של הרזה?

5 חוק הכבידה 3

תפוח שמסתו 200 גרם נעזב מעל פני כדור הארץ.

מה הכוח שירגיש ומה תאוצתו?

6 תנועת לוויינים 1

לוויין שמסתו 100kg מקיף את כדור הארץ בגובה 3,620km.

א. מה מהירותו (בהנחה שמסלולו מעגלי)?

ב. מה יהיה זמן המחזור שלו?

ג. מה תאוצת הלוויין בנקודה בה הוא נמצא?

ד. כמה סיבובים משלים לוויין זה בזמן שכדור הארץ משלים סיבוב אחד?

7 תנועת לוויינים 2

על כוכב בעל רדיוס של $R = 5,000 \text{ km}$ וצפיפותו הממוצעת $\rho = 5 \frac{\text{gr}}{\text{cm}^3}$ חיים

חיזרים, שרוצים לשגר לוויין שמסתו $m = 200 \text{ kg}$, כך שיקיפו בזמן מחזור של 20 שעות.

א. מה תהיה המהירות הזוויתית של לוויין זה?

ב. מה יהיה רדיוס הקפתו?

ג. מה תהיה תאוצת הלוויין בגובה בו הוא נמצא?

ד. מה תהיה תאוצת הנפילה החופשית בגובה בו הלוויין נמצא?

ה. מה תאוצת הנפילה החופשית על פני כוכב זה?

(8) תנועת לוויינים 3

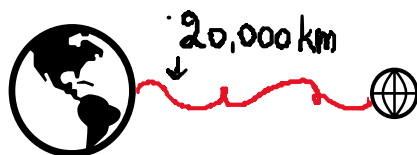
- לוויין ריגול הוא לוויין שנמצא בכל רגע מעל אותה נקודה על פני כדור הארץ (כדי לצלם נקודה זו). מסלול של לוויין שנמצא כל הזמן מעל אותה נקודה בקרקע נקרא מסלול גיאוסטציונרי.
- איך זה אפשרי?
 - מה גובה לוויין זה מעל פני הקרקע?
 - מה מהירותו?
 - הסבירו מדוע מסלול כזה אפשרי רק מעל קו המשווה.

(9) חוסר משקל

- בתוך החללית תלויה משקולת, שמסתה 2kg, על חוט. מה תהיה המתוחות בחוט בכל שלב:
- במנוחה על כדור הארץ.
 - מאיצה לעבר החלל החיצון ב- $a = 2 \frac{\text{m}}{\text{sec}^2}$.
 - נעצרת בגובה $h = 10,000\text{km}$.
 - נכנסת למסלול מעגלי בגובה זה.

(10) שדה כבידה

כדור הארץ ולוויין שמסתו 100kg נמצאים במרחק 20,000km אחד מהשני (מרכז כדור הארץ ממרכז הלוויין).



- מה הכוח שמפעיל כדור הארץ על הלוויין?
- מה שדה הכבידה שיוצר כדור הארץ במקום בו הלוויין נמצא? ומה משמעות מספר זה?
- מה הכוח שמפעיל הלוויין על כדור הארץ?
- מה שדה הכבידה שיוצר הלוויין במקום בו נמצא (מרכז) כדור הארץ?

(11) אנרגיה כבידתית

עקב תקלה, לוויין שמקיף את כדור הארץ ברדיוס של 10,000km נעצר רגעית, ואז מתחיל ליפול אל כדור הארץ.

- מה תהיה מהירותו בגובה 1,000km מעל פני הקרקע?
- באיזה מהירות יפגע בקרקע? (תזניחו חיכוך עם האטמוספירה או התנגדות אוויר, כאילו רק כוח הכבידה פועל פה).

(12) אנרגיית לוויינים 1

לוויין שמסתו 20kg מקיף את כדור הארץ כל 90 דקות.

- א. מה רדיוס הקפתו?
- ב. מה האנרגיה המכנית שלו?
- ג. מה האנרגיה הפוטנציאלית כבידתית שלו?
- ד. מה האנרגיה הקינטית שלו?
- ה. רוצים להעבירו למסלול מעגלי אחר ברדיוס של 9,000km, כמה אנרגיה יש להשקיע לשם כך?

(13) אנרגיית לוויינים 2

טיל שמסתו 100kg נורה מפני כדור הארץ במהירות $v_0 = 8000 \frac{\text{m}}{\text{sec}}$.

- א. מה תהיה מהירותו בגובה 1,000km? (נזניח את התנגדות האוויר)
- ב. לאיזה מרחק מקסימאלי מכדור הארץ הוא יגיע?
- ג. במקרה אחר אנחנו רוצים לקחת טיל זה ולהכניסו למסלול מעגלי סביב כדור הארץ ברדיוס שמצאנו בסעיף ב'. כמה אנרגיה יש להעניק לטיל לשם כך?

(14) מהירות מילוט

- א. מצא את מהירות המילוט מפני כדור הארץ.
- ב. מצא את מהירות המילוט מפני הירח.

15) קיץ 2018 שאלה 6

סוכנות החלל הישראלית בשיתוף עם סוכנות החלל הצרפתית שיגרו באוגוסט 2017 לוויין זעיר שמכונה (Vegetation & Environment on a New Micro Satellite) μS VEN למטרות תצפית ומחקר מדעי ייחודי. הלוויין מצויד באמצעים טכנולוגיים משוכללים, שחלקם פותחו ויוצרו בישראל. הלוויין יצלם מהחלל, בין השאר, שדות וחלקות אדמה, לצורך מחקרים של ניטור מצב הקרקע, הצמחייה ואיכות המים.

הלוויין מצויד בשני מנועי סילון חדשניים שפותחו בישראל וייבחנו לראשונה בחלל. הלוויין מתוכנן לשהות בחלל כשלוש שנים וחצי:

בשלה הראשון ינוע הלוויין בגובה של 720km מעל פני כדור הארץ.

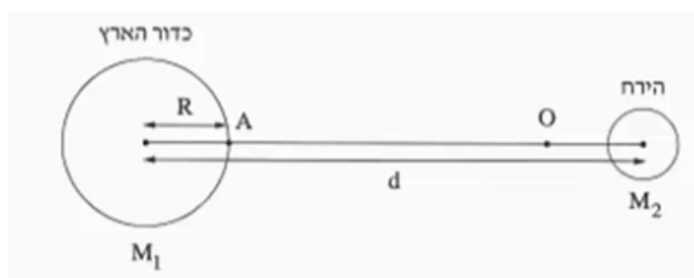
בשלב השני ינוע הלוויין בגובה של 410km מעל פני כדור הארץ.

שים לב:

- הנח כי הלוויין נע במסלול מעגלי.
- התייחס רק להשפעת כדור הארץ על תנועת הלוויין. השפעת גרמי שמיים אחרים ניתנת להזנחה.
- א. חשב את תאוצת הנפילה החופשית של הלוויין במהלך תנועתו בשלב הראשון (גודל וכיוון).
- ב. חשב את זמן המחזור של הלוויין ואת המהירות המשיקית שלו במסלולו בשלב השני.
- ג. לפניך שלושה היגדים. התייחס לכל אחד מן ההיגדים וקבע אם הוא נכון, שגוי או שאי אפשר לקבוע.
 - i. האנרגיה הפוטנציאלית הכובדית של הלוויין בשלב הראשון גדולה מן האנרגיה הפוטנציאלית הכובדית שלו בשלב השני.
 - ii. האנרגיה הקינטית של הלוויין בשלב הראשון גדולה מן האנרגיה הקינטית שלו בשלב השני.
 - iii. האנרגיה הכוללת של הלוויין בשלב הראשון שווה לאנרגיה הכוללת שלו בשלב השני.
- ד. חשב את התוספת המינימלית של האנרגיה הנדרשת כדי לגרום ללוויין להגיע למצב שבו הוא יתנתק מהשפעת כוח המשיכה של כדור הארץ.

16) בגרות כבידה 2017

שאלה זו עוסקת במערכת כדור הארץ והירח, אך מתעלמת מן התנועות שלהם ומן ההשפעות של גרמי שמים אחרים על מערכת זו. בתרשים שלפניך מוצגים חתכים של כדור הארץ ושל הירח. קנה המידה של התרשים אינו מדויק.



נסמן:

M_1 - מסת כדור הארץ. M_2 - מסת הירח. R - רדיוס כדור הארץ.

d - המרחק בין מרכז כדור הארץ לבין מרכז הירח.

g - גודל תאוצת הנפילה החופשית על פני כדור הארץ.

$$\text{נתון: } d = 60R, M_2 = \frac{M_1}{81}$$

על הישר המחבר בין מרכז כדור הארץ לבין מרכז הירח נמצאת הנקודה O (ראה תרשים). בנקודה זו גוף שמוצב במנוחה – יישאר במנוחה.

א. בטא באמצעות R את מרחק הנקודה O ממרכז כדור הארץ.

משגרים חללית שמסתה m מן הנקודה A (ראה תרשים), שעל פני כדור הארץ, לירח.

ב. בטא באמצעות R , m ו- g את האנרגיה המינימלית E שיש להעניק

לחללית כדי להביאה לנקודה O .

שים לב: עליך להתחשב בהשפעות של כדור הארץ ושל הירח על החללית.

ב-21 בדצמבר 1968 שוגרה החללית אפולו 8, והצוות שנשאה היה הראשון שנע

במסלול סביב הירח. 103 שנים לפני כן תיאר הסופר ז'ול ורן בספרו "מן הארץ

אל הירח" מסע דומה לזה של אפולו 8.

לשאלה "האם אפשר לשגר קליע עד הירח?", מוצגת בספרו של ז'ול ורן התשובה

שלפניך (בתרגום חופשי): "אפשר לשגר קליע עד הירח אם נותנים לו מהירות

התחלתית שגודלה כ- $v = 11 \frac{\text{km}}{\text{sec}}$. מהירות זו מספיקה כדי שהקליע יגיע לנקודה

שבה הכוחות שכדור הארץ והירח מפעילים על הקליע שווים בגודלם.

מעבר לנקודה זו כדור הארץ כבר אינו מושך את הקליע אלא רק הירח, ולכן אם

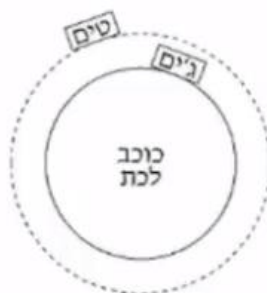
הקליע יעבור את הנקודה הזאת בדרכו לעבר הירח, הוא יצליח להגיע אליו."

ג. קבע אם כל התיאור הזה נכון. נמק את קביעתך. (אין צורך לחשב).

17) קיץ 2016 שאלה 5

בתרחיש דמיוני, שני אסטרונוטים טים וגיים חקרו כוכב לכת שלא נע סביב צירו. טים ישב על כיסא בתוך מעבורת שהקיפה את כוכב הלכת במסלול מעגלי במנוע כבוי. גיים ישב על כיסא בתוך רכב חלל שעמד על פני כוכב הלכת (ראה תרשים).

לשני האסטרונוטים מסה זהה: $m = 100\text{kg}$.



א. קבע מיהו האסטרונוט שהפעיל על כיסאו כוח גדול יותר: טים או גיים? נמק בלי חישוב.

על הרצפה של רכב החלל שעמד על פני כוכב הלכת הותקן מד-משקל. כאשר גיים עמד עליו, הוריית המד-משקל הייתה 2000N . גיים התחיל בנסיעה לאורך מסלול מעגלי על קו המשווה של כוכב הלכת. הוא הבחין שככל שהגביר את מהירותו, כך קטנה הוריית המד-משקל. ב. הסבר מדוע קטנה הוריית המד-משקל.

נתון: כאשר הגיע רכב החלל למהירות של: $v = 1.25 \cdot 10^4 \frac{\text{m}}{\text{sec}}$, הייתה הוריית

המד-משקל 980N .

ג. חשב את הרדיוס של כוכב הלכת.

ד. חשב את מסתו של כוכב הלכת.

ה. תאוצת המעבורת שהקיפה את כוכב הלכת בתנועה מעגלית קצובה הייתה a . נסמן ב- g^* את תאוצת הכובד בגובה שבו סובבת המעבורת סביב כוכב הלכת.

קבע איזה מן ההיגדים i-iii שלפניך נכון. נמק קביעתך.

i. $a > g^*$

ii. $a = g^*$

iii. $a < g^*$

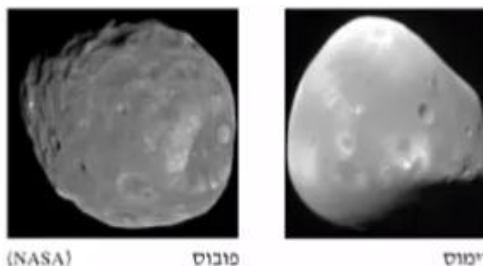
18) קיץ 2015 שאלה 5

בסרט "כוח משיכה" משנת 2013, האסטרונוטים מנסים להגיע לתחנת החלל הבין-לאומית, לאחר שתיקנו לווין הסמוך לתחנת החלל. הלוויין ותחנת החלל נעים סביב קו המשווה בגובה 400 קילומטרים מעל פני כדור הארץ. הנח שמסלול התחנה הוא מסלול מעגלי, והכוח היחיד הפועל על התחנה הוא כוח המשיכה של כדור הארץ.

- א. חשב את תאוצת התחנה בהיותה במסלול המתואר בפתיח לשאלה.
- ב. לפניך 4 היגדים i-iv.
 - i. תחנת החלל נעה במסלולה במהירות שגודלה קבוע.
 - ii. תחנת החלל נעה במסלולה במהירות קבועה.
 - iii. שקול הכוחות הפועלים על תחנת החלל הנעה במסלולה שווה לאפס.
 - iv. תחנת החלל נעה במסלולה במהירות ובתאוצה קבועות.
- ג. ידוע כי תאוצת הכובד בגובה המסלול של התחנה היא בקירוב 90% מתאוצת הכובד על פני כדור הארץ. כיצד אפשר להסביר את העובדה שהאסטרונוטים שמתקנים את הלוויין נראים חסרי משקל (מרחפים)?
- ד. ברגע מסוים עברה תחנת החלל במסלולה מעל נקודה כלשהי שנמצאת על קו המשווה. כמה פעמים נוספות עברה תחנת החלל מעל נקודה זו ביממה (24 שעות)? (אפשר להזניח את הסיבוב של כדור הארץ סביב עצמו).
- ה. האם האנרגיה המכנית של התחנה נשמרת במהלך תנועתה במסלולה המעגלי סביב כדור הארץ? הסבר את קביעתך.

19) קיץ 2014 שאלה 5

בשנת 1877 התגלו שני ירחים המקיפים את כוכב הלכת מאדים : פובוס (Phobos) ודימוס (Deimos).



זמן המחזור של פובוס בתנועתו סביב מאדים, T_p , הוא 0.3189 יממות ארציות, ורדיוס מסלולו הוא: $r_p = 9.377 \cdot 10^6 \text{ m}$.

זמן המחזור של דימוס סביב מאדים, T_D , הוא 1.262 יממות ארציות. א. ענה על הסעיפים הבאים:

- i. חשב את רדיוס המסלול של דימוס (אפשר להזניח את השפעת הירחים זה על זה).
- ii. נתון: זמן מחזור הירח של כדור הארץ בתנועתו סביב כדור הארץ, T_m , הוא 27.3 יממות. האם על פי נתון זה, הנתונים שבפתיח וחוקי קפלר בלבד, אפשר לחשב את רדיוס המסלול של הירח בתנועתו סביב כדור הארץ? אם כן – חשב אותו, אם לא – הסבר מדוע אי אפשר לחשב.

הנח שצורתו של כוכב הלכת מאדים היא כדורית וצפיפותו אחידה. ב. חשב את מסת כוכב הלכת מאדים, על פי נתוני השאלה בלבד. פרט את חישוביך.

חללית קטנה שמסתה 53kg נשלחה לחקור את מאדים, וריחפה ללא נוע בגובה 20m מעל נקודה מסוימת על פני מאדים. הנח שכוכב הלכת מאדים אינו מסתובב סביב צירו.

מטאורואיד שמסתו 1.3kg נע במהירות קבועה שגודלה $12.5 \frac{\text{m}}{\text{sec}}$ וכיוונו

- מקביל לקרקע המאדים, פגע בחללית וחדר לתוכה. לאחר ההתנגשות שני הגופים האלה נעו כגוף אחד (נכנה אותו "גוף מורכב") ופגעו בקרקע המאדים. הרדיוס של כוכב הלכת מאדים הוא: $R = 3.4 \cdot 10^6 \text{ m}$.
- ג. חשב את גודל המהירות של הגוף המורכב מיד אחרי ההתנגשות.
- ד. כמה זמן אחרי ההתנגשות פגע הגוף המורכב בקרקע המאדים?

20) קיץ 2013 שאלה 5

משגרים לוויין לחלל באמצעות רקטה.

על כן השיגור מסת הרקטה עם הדלק והלוויין היא: $M = 7.3 \cdot 10^5 \text{ kg}$.

הכוח המרבי שהמנוע מפעיל בזמן השיגור הוא: $F = 1.16 \cdot 10^7 \text{ N}$.

א. סרטט במחברתך תרשים של הכוחות הפועלים על הרקטה בזמן השיגור. הנח שהתנגדות האוויר זניחה.

ב. הרקטה ניתקת מכך השיגור ברגע $t = 0$. מרגע ההינתקות המנוע מפעיל את הכוח המרבי.

חשב את תאוצת הרקטה ברגע ההינתקות.

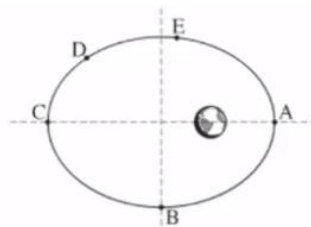
ג. ענה על הסעיפים הבאים:

i. הסבר בקצרה את עקרון הפעולה של מנוע רקטי.

ii. בהנחה שהכוח F קבוע במשך השניות הראשונות, קבע אם בפרק הזמן הזה התאוצה גדלה, קטנה או לא משתנה. נמק את קביעתך.

ברגע מסוים הלוויין מתנתק מהרקטה, וממשיך לנוע בהשפעת כוח הכובד של כדור הארץ.

ד. בתרשים שלפניך מוצג המסלול הקבוע של הלוויין, שצורתו אליפסה (התרשים אינו מסורטט בקנה מידה). הלוויין נע סביב כדור הארץ בכיוון השעון.



העתק את התרשים למחברתך, וסמן עליו חצים המייצגים את:

i. וקטור מהירות הלוויין, בכל אחת מהנקודות B ו-D.

ii. וקטור התאוצה של הלוויין בנקודה A.

iii. וקטור הכוח השקול הפועל על הלוויין, בכל אחת מהנקודות C ו-E. הסבר את שיקולך.

ה. קבע באיזו משתי הנקודות A ו-E מהירות הלוויין היא מרבית. נמק את קביעתך.

(21) קיץ 2011 שאלה 5

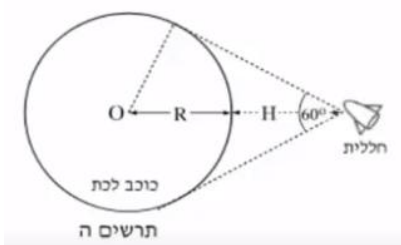
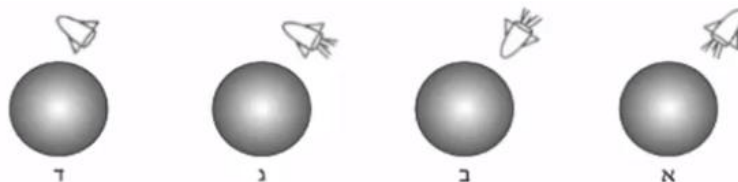
- עמוס 1 הוא לוויין התקשורת הישראלי הראשון, שפיתחה התעשייה האווירית של ישראל. המסלול של הלוויין עמוס 1 הוא מעגלי (בקירוב). כלוויין תקשורת עמוס 1 נמצא כל הזמן מעל אותה נקודה A שעל פני כדור הארץ.
- קבע את זמן המחזור של הלוויין עמוס 1. נמק את קביעתך.
 - חשב את גובה המסלול של הלוויין עמוס 1 מעל פני כדור הארץ.
 - חשב את גודל התאוצה של הלוויין עמוס 1 במסלולו.
 - לוויין אחר (לא לוויין תקשורת) מקיף את כדור הארץ במסלול מעגלי במשך 12 שעות. השתמש בחוקי קפלר וחשב באיזה גובה מעל פני כדור הארץ עובר המסלול של לוויין זה.
 - קבע איזה מההיגדים i-iii שלפניך אינו נכון, והסבר מדוע הוא אינו נכון.
 - תנועת לוויין במסלולו היא נפילה חופשית.
 - גודל המהירות הקווית של נקודה A שעל פני כדור הארץ שווה לגודל המהירות הקווית של הלוויין עמוס 1 הנע במסלולו.
 - גודל המהירות הזוויתית של נקודה A שעל פני כדור הארץ שווה לגודל המהירות הזוויתית של הלוויין עמוס 1 הנע במסלולו.

(22) קיץ 2010 שאלה 5

- חללית שוגרה מכדור הארץ כדי לחקור את מערכת השמש. בשלב הראשון החללית נעה סביב השמש במסלול מעגלי. רדיוס המסלול שלה שווה לרדיוס המסלול של כדור הארץ סביב השמש.
- הערה: בכל החישובים בשאלה זו תוכל להזניח את השפעת כדור הארץ ושאר כוכבי הלכת על החללית.
- ענה על הסעיפים הבאים:
 - המהירות הקווית של החללית שווה למהירות הקווית של כדור הארץ סביב השמש. הסבר מדוע.
 - חשב את המהירות הקווית של החללית.
- בשנת 2005 התגלה במערכת השמש גוף דמוי כוכב לכת המכונה "אריס" (ERIS), שמרחקו מהשמש: $1.01 \cdot 10^{10} \text{ km}$.
- בהנחה שאריס נע סביב השמש במסלול מעגלי, חשב את זמן המחזור שלו (בשנים).
 - בזמן שהחללית נעה במסלולה סביב השמש, מפעילים ברגע מסוים את המנועים שלה. נתון שמסת החללית היא: 800 kg .
 - חשב את האנרגיה המינימלית, E_0 , שיש להוסיף לחללית כדי שתעזוב את מערכת השמש.
 - רוצים לשגר את החללית ממסלולה סביב השמש של אריס.
 - קבע ללא חישוב מספרי, אם האנרגיה המינימלית שיש להוסיף לה לשם כך גדולה יותר מהאנרגיה E_0 שחישבת בסעיף ג', קטנה ממנה או שווה לה. הסבר את תשובתך.

23) קיץ 2009 שאלה 5

אסטרונוט בחללית רוצה חקור כוכב לכת שצורתו כדורית.
 א. בשלב מסוים של המחקר, האסטרונוט בחללית נמצא במנוחה ביחס למרכז כוכב הלכת. איזה מהתרשימים א-ד שלפניך, מתאר נכון את מצב החללית ביחס לכוכב הלכת? נמק את תשובתך.
 (שים לב: בתרשימים א-ג מנוע החללית פועל, (בתרשים ד מנוע החללית אינו פועל).



האסטרונוט מצא באמצעות מכשיר רדר כי החללית נמצאת בגובה $H = 10^7 \text{ m}$ מעל פני כוכב הלכת, וכי רואים את כוכב הלכת בזווית ראייה של 60° .

א. הוא מרכז כוכב הלכת (ראה תרשים ה).
 ב. חשב את הרדיוס, R, של כוכב הלכת.

- בעזרת מנוע החללית, האסטרונוט מכניס את החללית לתנועה מעגלית סביב כוכב הלכת (בגובה H מעל פני הכוכב). האסטרונוט מצא כי זמן מחזור התנועה של החללית סביב כוכב הלכת הוא 150 דקות. הנח כי צפיפות כוכב הלכת אחידה.
- חשב את המסה של כוכב הלכת.
 - חשב את גודל תאוצת הנפילה החופשית על פני כוכב הלכת.
 - האם במהלך התנועה המעגלית נדרשת פעולת מנועי החללית כדי לקיים את התנועה המעגלית?
 אם כן – הסבר את תפקיד המנועים, אם לא – הסבר מדוע התנועה המעגלית אפשרית בלי פעולת מנועי החללית.

24) בגרות כבידה 2006

- הירח נע סביב כדור הארץ, וכל הזמן מפנה אליו אותו "צד".
 הירח משלים סיבוב מעגלי שלם סביב כדור הארץ במשך 27.3 יממות ארציות.
 משני נתונים אלה נובע כי הירח מסתובב גם סביב צירו, וזמן המחזור שלו הוא 27.3 יממות ארציות.
 מהנדס עוסק בתכנון תקשורת בין מושבות שיוקמו בעתיד על פני הירח.
 בדעתו להשתמש בלוויין תקשורת שינוע במסלול מעגלי סביב הירח, כך שזמן המחזור שלו יהיה 27.3 יממות ארציות, והוא ימצא כל העת מעל נקודה קבועה על פני הירח (בדומה ללווייני תקשורת שנעים מעל כדור הארץ).
 א. חשב את רדיוס המסלול המעגלי של לוויין כזה, בהנחה כי רק הירח משפיע על תנועת הלוויין.
 ב. המהנדס חישב ומצא שבגלל השפעת כדור הארץ, אי אפשר למקם את הלוויין במסלול שאת רדיוסו מצאת בסעיף א. הרדיוס המקסימלי של מסלול לוויין סביב הירח שבו אפשר להזניח את ההשפעה של כדור הארץ הוא כ- 3,000km.
 חשב את זמן המחזור של לוויין שנע סביב הירח במסלול מעגלי שרדיוסו 3,000km.
 ג. חשב את תאוצת הנפילה החופשית על פני הירח.
 ד. ציין תרומה אחת לידע המדעי על אודות מערכת השמש או גרמי שמיים במערכת זו, שתרים אחד מהאישים האלה:
 ניקולס קופרניקוס, גלילאו גליליי, טיכו ברהה.

תשובות סופיות:

(1) הכי גדולה : A, הכי קטנה : D.

(2) א. $T_2 = 3.54 \text{ days}$ ב. לא.(3) א. $F = 1.97 \cdot 10^{20} \text{ N}$ ב. $a_{\text{Moon}} = 2.7 \cdot 10^{-3} \frac{\text{m}}{\text{sec}^2}$ ג. כוח זהה לסעיף אי – בכיוון ההפוך. ד. $a_{\text{Earth}} = 3.3 \cdot 10^{-5} \frac{\text{m}}{\text{sec}^2}$ (4) $F = 2.8 \cdot 10^{-7} \text{ N}$, $a = 4.67 \cdot 10^{-9} \frac{\text{m}}{\text{sec}^2}$ (5) $F = 1.96 \text{ N}$, $a = 9.8 \frac{\text{m}}{\text{sec}^2}$ (6) א. $v = 6310 \frac{\text{m}}{\text{sec}}$ ב. $T = 2.77 \text{ hr}$ ג. $a = 3.98 \frac{\text{m}}{\text{sec}^2}$ ד. $n = 8 \frac{2}{3}$ (7) א. $8.72 \cdot 10^{-5} \frac{\text{rad}}{\text{sec}}$ ב. $r = 2.84 \cdot 10^7 \text{ m}$ ג. $a_s = 0.216 \frac{\text{m}}{\text{sec}^2}$ ד. $a_s = 0.216 \frac{\text{m}}{\text{sec}^2}$ ה. $6.99 \frac{\text{m}}{\text{sec}^2}$ (8) א. ראה סרטון. ב. $h = 3.58 \cdot 10^7 \text{ m}$ ג. $v = 3070 \frac{\text{m}}{\text{sec}}$ ד. ראה סרטון.(9) א. $T = 20 \text{ N}$ ב. $T = 24 \text{ N}$ ג. $T = 2.97 \text{ N}$ ד. $T = 0$ (10) א. $F_G = 99.5 \text{ N}$ ב. $g = 0.995 \frac{\text{N}}{\text{kg}}$ ג. כמו בסעיף א. ד. $g = 1.67 \cdot 10^{-23} \frac{\text{N}}{\text{kg}}$ (11) א. $v_A = 5,330 \frac{\text{m}}{\text{sec}}$ ב. $v_B = 6,725 \frac{\text{m}}{\text{sec}}$ (12) א. $r = 6.65 \cdot 10^6 \text{ m}$ ב. $E = 1.2 \cdot 10^9 \text{ J}$ ג. $U = -2.4 \cdot 10^9 \text{ J}$ ד. $E = 1.2 \cdot 10^9 \text{ J}$
ה. $\Delta E = 3.15 \cdot 10^8 \text{ J}$ (13) א. $V_A = 6,860 \frac{\text{m}}{\text{sec}}$ ב. $r_f = 1.31 \cdot 10^7 \text{ m}$ ג. $\Delta E = 4.72 \cdot 10^9 \text{ J}$ (14) א. $v_{\text{Earth}} = 11,200 \frac{\text{m}}{\text{sec}}$ ב. $v_{\text{Moon}} = 2,360 \frac{\text{m}}{\text{sec}}$ (15) א. $a = g^* = 7.9 \frac{\text{m}}{\text{sec}^2}$ ב. $v = 7,660 \frac{\text{m}}{\text{sec}}$, $T = 1.55 \text{ hr}$ ג. i. נכון.ii. שגוי. iii. שגוי. ד. $\Delta E = 8.66 \cdot 10^9 \text{ J}$ (16) א. $x = 54R$ ב. $\Delta E = mg \cdot R \cdot 0.98$

ג. לא נכון, מעבר לנקודה זו הירח מפעיל כוח משיכה חזק יותר על הקליע מאשר כדור הארץ.

(17) א. $N_{\text{Jim}} > N_{\text{Tim}}$ ב. ראה סרטון. ג. $R = 1.53 \cdot 10^7 \text{ m}$ ד. $M = 7.02 \cdot 10^{25} \text{ kg}$

ה. היגד ii הוא הנכון.

18) א. $a = 8.7 \frac{m}{sec^2}$ ב. היגד i נכון.

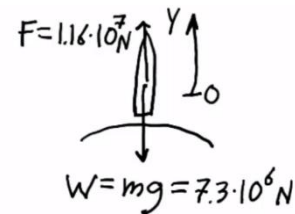
ג. ביחס ללוויין האסטרונואוט לא נע (מרחף) גם בלי שיעמוד על הרצפה.

ד. $N = 15$ ה. כן.

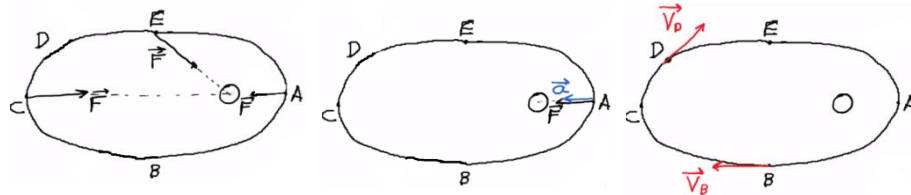
19) א.i. $R_1 = 2.346 \cdot 10^7 m$ ii. אי אפשר, תקף רק ל-2 גופים שמקיפים את אותו

גרם שמיים. ב. $M = 6.45 \cdot 10^{23} kg$ ג. $u = 0.3 \frac{m}{sec}$ ד. $t = 3.29 sec$

20) א. שרטוט: ב. $a = 5.89 \frac{m}{sec^2}$ ג.i. ראה סרטון. ii. גדלה.



ד.i. שרטוט: ii. שרטוט: iii. שרטוט: ה. $v_A > v_E$



21) א. $T = 86,400 sec$ ב. $h = 3.59 \cdot 10^7 m$ ג. $a = 0.224 \frac{m}{sec^2}$ ד. $h = 2.02 \cdot 10^7 m$

ה. היגד ii לא נכון.

22) א.i. ראה סרטון. ii. $v = 2.98 \cdot 10^4 \frac{m}{sec}$ ב. $T = 553$ ג. $E_0 = -3.56 \cdot 10^{11} J$

ד. קטנה.

23) א.א. ב. $R = 10^7 m$ ג. $M = 5.84 \cdot 10^{25} kg$ ד. $g^* = 39 \frac{m}{sec^2}$

ה. לא, הכוח שגורם לתנועה המעגלית סביב הכוכב הוא בעצם כוח המשיכה עצמו.

24) א. $r = 8.84 \cdot 10^7 m$ ב. $T = 0.17_{days}$ ג. $a = 1.62 \frac{m}{sec^2}$ ד. ראה סרטון.

פיזיקה להנדסאי בניין

פרק 12 - מומנט התמד

תוכן העניינים

1. הקדמה - גוף קשיח וציר סיבוב (ללא ספר)
2. מומנט התמד, הסבר בסיסי וחישוב עבור גוף נקודת (ללא ספר)
3. משפט שטיינר ואדטיביות 141
4. נוסחאות לגופים נוספים וסיכום 144
5. $I_z = I_x + I_y$ (ללא ספר)
6. סימטריה לז (ללא ספר)
7. חישוב מומנט ההתמד של דיסקה סביב ציר Z וציר X 145
8. תרגילים שונים לחישוב מומנט התמד 146
9. מומנט ההתמד כמטריצה 149

אדטיביות:

רקע

גוף קשיח:

הגדרה: המרחק בין כל שתי נקודות על הגוף תמיד קבוע.

אם גוף קשיח מסתובב סביב ציר סיבוב כל הנקודות על הגוף מבצעות תנועה מעגלית באותה המהירות הזוויתית (אך לא באותה מהירות קווית) מומנט התמד:

$$I = \sum m_i r_i^2$$

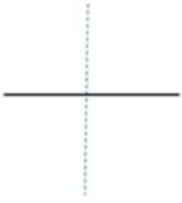




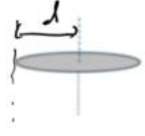



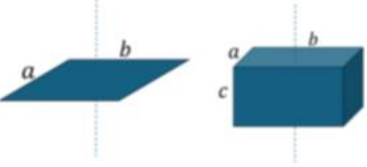
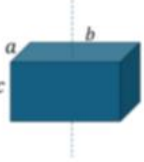
הגדרה - עבור מערכת של גופים נקודתיים

משפט שטיינר - $I' = I_{c.m.} + md^2$ כאשר d הוא המרחק בין הצירים ו m היא המסה הכוללת של הגוף

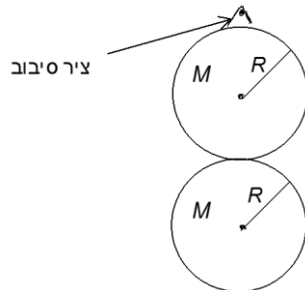
הערה: משפט שטיינר פועל רק לצירים מקבילים, ורק כאשר אחד הצירים עובר במרכז המסה.

אדטיביות - מומנט ההתמד הוא פונקציה אדטיבית, כלומר ניתן לסכום את המומנט התמד של כל חלק וחלק בגוף על מנת לקבל את המומנט הכולל. $I_T = I_1 + I_2$

נוסחאות מומנט התמד של גופים נפוצים:

	מוט במרכז המסה $I_{c.m.} = \frac{1}{12} mL^2$	<div style="display: flex; justify-content: space-around;"> <div style="text-align: center;"> <p>גליל חלול</p>  </div> <div style="text-align: center;"> <p>גוף נקודתי</p>  </div> </div> <p>טבעת (חלולה)</p> 	גוף נקודתי סביב ציר כלשהו $I = mR^2$ טבעת וגליל חלול סביב הציר המרכזי $I_{c.m.} = mR^2$
	מוט בקצה $I = \frac{1}{3} mL^2$	<div style="display: flex; justify-content: space-around;"> <div style="text-align: center;">  </div> <div style="text-align: center;">  </div> </div>	דיסקה/ גליל מלא במרכז מסה סביב ציר z-אנך לדיסקה $I_{c.m.} = \frac{1}{2} mR^2$
	כדור מלא במרכז מסה $I_{c.m.} = \frac{2}{5} mR^2$		דיסקה במרכז מסה סביב ציר x-במישור הדיסקה $I_{c.m.} = \frac{1}{4} mR^2$
 	תיבה או לוח במרכז מסה $I_{c.m.} = \frac{m(a^2 + b^2)}{12}$		

שאלות:



- (1) **שעון כפול תלוי על קיר**
 לדסקה בעלת מסה M ורדיוס R מחברים דסקה נוספת זהה בקצה התחתון של הדסקה. מצא את מומנט ההתמד של המערכת סביב ציר המאונך למישור הדסקה והעובר בקצה העליון של הדסקה (הראשונה).

תשובות סופיות:

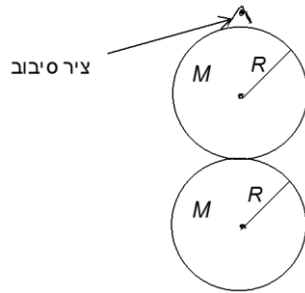
$$I = 11mR^2 \quad (1)$$

אדטיביות:

שאלות:

(1) דוגמה

לדסקה בעלת מסה M ורדיוס R מחברים דסקה נוספת זהה בקצה התחתון של הדסקה. מצא את מומנט ההתמד של המערכת סביב ציר המאונך למישור הדסקה והעובר בקצה העליון של הדסקה (הראשונה).



תשובות סופיות:

$$I = 11mR^2 \quad (1)$$

חישוב מומנט ההתמד באמצעות אינטגרלים:

רקע

עבור גוף קשיח: $I = \int r^2 dm$

כאשר r הוא המרחק של כל גוף מציר הסיבוב (ולא מהראשית)

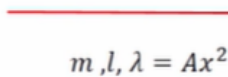
אם ציר הסיבוב הוא ציר z אז $r^2 = x^2 + y^2$

תרגילים שונים לחישוב מומנט התמד:

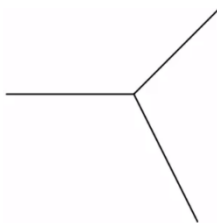
שאלות:



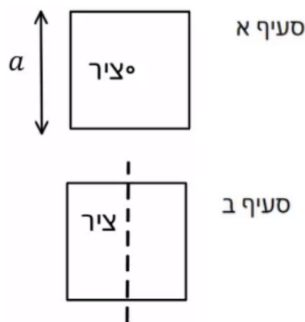
- (1) חישוב אינטגרל של מוט לא אחיד
חשב את מומנט ההתמד של מוט עם צפיפות ליחידת אורך $\lambda(x) = \lambda_0 \frac{x}{L}$ סביב קצה המוט.
 x הוא המרחק מהקצה, L הוא אורך המוט ו- λ_0 נתון.



- (2) חישוב נוסף מוט בצפיפות לא אחידה
מצא את מומנט ההתמד של מוט סביב מרכזו לפי הנתונים שבשרטוט.
הצפיפות הנתונה מתייחסת למרכז המוט כראשית הצירים.



- (3) שלושה מוטות מחוברים בקצה
שלושה מוטות זהים באורך l ומסה m כל אחד מחוברים באופן המוצג באיור.
מצא את מומנט ההתמד של המערכת סביב ציר הנמצא בנקודת החיבור בין המוטות ובמאונך למישור.



- (4) מסגרת ריבועית
נתונה מסגרת ריבועית בעלת אורך צלע a ומסה M .
מצא את מומנט ההתמד של מסגרת.
א. סביב ציר העובר במרכז ומאונך למישור המסגרת.
ב. סביב ציר העובר במרכז המסגרת ודרך מרכז שתי צלעות ומקביל לשתי הצלעות האחרות.

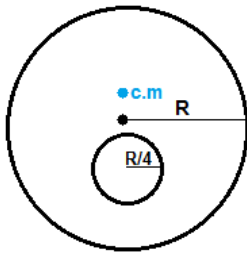


- (5) מומנט התמד של שער חשמלי
מצא את מומנט ההתמד של שער חשמלי בעל מסה m ואורך l אשר בסופו מחוברת משקולת בעלת מסה M ואורך L המסתובב סביב מרכז המסה שלו.



- (6) מומנט התמד של ריש
מצא את מומנט ההתמד של הגוף שבשרטוט סביב מרכז המסה שלו בשתי דרכים שונות. אורך כל מוט l ומסתו m .

(7) דיסקה עם חור



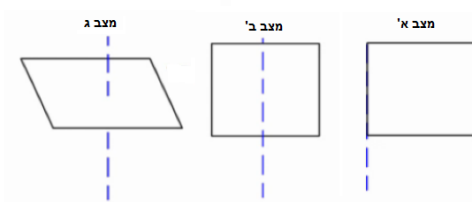
- א. מצא את מומנט ההתמד של דיסקה בעלת מסה M ורדיוס R , אם ידוע כי במרחק R חצי ממרכז הדיסקה קדחו חור ברדיוס רבע R . הדיסקה מסתובבת סביב ציר במרכזה (ולא במרכז המסה של המערכת).
- ב. מצא את מומנט ההתמד של הגוף סביב מרכז המסה שלו.

(8) חצי חישוק ושתי מסות



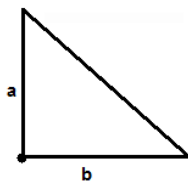
- א. מצא את מומנט ההתמד של חצי החישוק שבתמונה. רדיוסו R , מסתו M ובקצותיו חוברו שתי מסות m . החישוק סובב סביב מסמר בקודקודו.

(9) חישוב אינטגרל של ריבוע



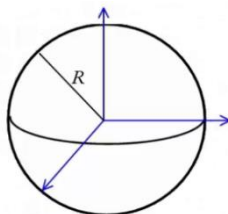
- חשב את מומנט ההתמד של לוח ריבוע בעל אורך צלע a , מסה M וצפיפות אחידה בכל אחד מהמצבים הבאים:
- א. ציר הסיבוב הוא אחת הפאות של הריבוע.
- ב. ציר הסיבוב מקביל לפאות ועובר במרכז.
- ג. ציר הסיבוב אנך למשטח הריבוע ועובר במרכזו.

(10) מומנט התמד של משולש



- א. מצא את מומנט ההתמד של המשולש סביב קודקודו הישר.

(11) מומנט התמד של כדור מלא



- א. חשב את מומנט ההתמד של כדור מלא בעל רדיוס R , מסה M וצפיפות אחידה, סביב ציר העובר במרכז הכדור.

(12) מומנט התמד של קליפה כדורית

- א. מצאו את מומנט ההתמד של קליפה כדורית ברדיוס R ומסה m סביב ציר העובר דרך מרכז המסה של הקליפה.

תשובות סופיות:

$$I_0 = M \frac{L^2}{2} \quad (1)$$

$$I = \frac{12ml^2}{80} \quad (2)$$

$$I_{c.m.} = ml^2 \quad (3)$$

$$I = \frac{M}{8} \left(a^2 + \frac{l^2}{3} \right) \quad \text{ב.} \quad I_{c.m.} = \frac{M}{4} \left(\frac{l^2}{3} + a^2 \right) \quad \text{א.} \quad (4)$$

$$I = \left(\frac{1}{12} ml^2 + m \left(\frac{m \cdot 0 + \frac{M(1+L)}{2}}{m+M} \right)^2 \right) + \left(\frac{1}{12} (L^2 + L^2) M + M \left(\frac{1}{2} - \left(\frac{m \cdot 0 + \frac{M(1+L)}{2}}{m+M} \right) + \frac{L}{2} \right)^2 \right) \quad (5)$$

$$I = \frac{5}{12} ml^2 \quad (6)$$

$$I_0 = I_{c.m.} + \frac{15}{16} M \cdot \left(\frac{R}{30} \right)^2 \quad \text{ב.} \quad I_0 = \frac{247}{512} MR^2 \quad \text{א.} \quad (7)$$

$$I_1 = I_{c.m.} + m'b^2 \quad (8)$$

$$I = M \frac{1}{6} a^2 \quad \text{ג.} \quad I = \frac{1}{12} Ma^2 \quad \text{ב.} \quad I = \frac{1}{3} Ma^2 \quad \text{א.} \quad (9)$$

$$I_0 = \frac{1}{6} m(a^2 + b^2) \quad (10)$$

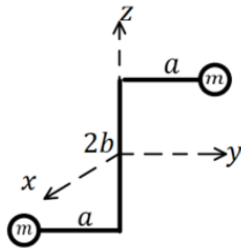
$$I = \frac{2}{5} MR^2 \quad (11)$$

$$\frac{2MR^2}{3} \quad (12)$$

מומנט ההתמד כמטריצה:

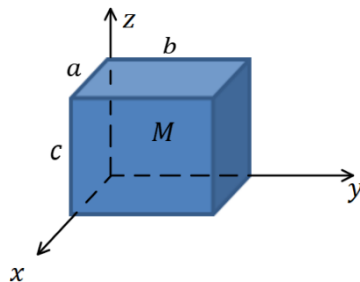
שאלות:

1) דוגמה-מנואלה



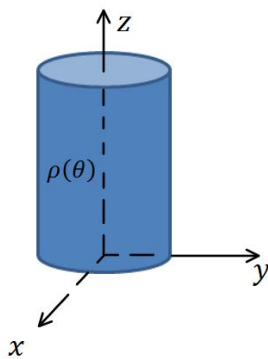
- שתי מסות נקודתיות זהות m מחוברות על ידי מוטות חסרי מסה כפי שנראה באיור. אורך המוט המרכזי הוא $2b$ ואורך כל מוט המחובר לכדור הוא a .
 א. מצא את כל מטריצת מומנט ההתמד של המערכת.
 ב. מצא את התנע הזוויתי של המערכת ברגע המתואר באיור אם המהירות הזוויתית היא $\vec{\omega} = \omega \hat{z}$.

2) דוגמה-מומנט התמד של קובייה



- חשב את המומנט התמד של קובייה בעלת מסה M המפולגת באופן אחיד. ראשית הצירים נמצאת בפינת הקובייה, צלעות הקובייה מקבילים לצירים ואורכייהם: a, b, c . ראה איור.

3) גליל עם צפיפות התלויה בזווית



- לגליל בעל רדיוס R וגובה H יש צפיפות מסה התלויה בזווית $\rho(\theta) = \rho_0(1 + \sin \theta)$ כאשר θ היא הזווית ביחס לציר x בקואורדינטות גליליות.
 א. מהי המסה הכוללת של הגליל?
 ב. מצא את מיקום מרכז המסה של הגליל.
 ג. חשב את: I_{zz}, I_{xx}, I_{yy} .
 ד. חשב את התנע הזוויתי של הגליל כאשר הוא מסתובב במהירות זוויתית $\vec{\omega} = \omega \hat{z}$.
 ה. מדוע יש הבדל בין התנע הזוויתי של הגליל בכיוונים x ו- y .

תשובות סופיות:

$$\vec{L} = -2mab\omega\hat{y} + 2ma^2\omega\hat{z} \quad \text{ב.} \quad \text{א.} \quad \mathbf{I} = 2m \begin{pmatrix} a^2 + b^2 & 0 & 0 \\ 0 & b^2 & -ab \\ 0 & -ab & a^2 \end{pmatrix} \quad (1)$$

$$\mathbf{I} = M \begin{pmatrix} \frac{b^2c^2}{3} & -\frac{ab}{4} & -\frac{ac}{4} \\ -\frac{ab}{4} & \frac{a^2+c^2}{3} & -\frac{bc}{4} \\ -\frac{ac}{4} & -\frac{bc}{4} & \frac{a^2+b^2}{3} \end{pmatrix} \quad (2)$$

$$y_{c.m.} = \frac{R}{3}, \quad x_{c.m.} = 0, \quad z_{c.m.} = \frac{H}{2} \quad \text{ב.} \quad \text{א.} \quad M = \rho_0\pi R^2H \quad (3)$$

$$I_{zz} = \frac{\pi R^4 H \rho_0}{2}, \quad I_{xz} = 0, \quad I_{yz} = -\frac{\pi R^3 H^2 \rho_0}{6} \quad \text{ג.}$$

$$L_x = 0, \quad L_y = -\frac{\pi R^3 H^2 \rho_0}{6} \omega, \quad L_z = \frac{\pi R^4 H \rho_0}{2} \omega \quad \text{ד.}$$

ה. מכיוון שאנו מחשבים את התנ"ז רק ברגע מסוים והתפלגות המסה אינה סימטרית בין x ל- y אז יש הבדל בין התנ"ז של כל ציר. בממוצע של זמן מחזור שלם התנ"ז יהיה זהה לכל ציר.

פיזיקה להנדסאי בניין

פרק 13 - מומנט כוח

תוכן העניינים

151	1. מומנט כוח - הסבר
(ללא ספר)	2. מכפלה וקטורית
153	3. תרגיל - מומנטים על משולש
(ללא ספר)	4. פיתוח, מדוע מתייחסים לכוח הכובד כאילו פועל במרכז המסה
(ללא ספר)	5. משוואת מומנטים
154	6. תרגיל - שני פועלים מחזירים מנשא
155	7. תרגילים מסכמים

מומנט כוח - הסבר:

רקע

$$\vec{\tau} = \vec{r} \times \vec{F}$$

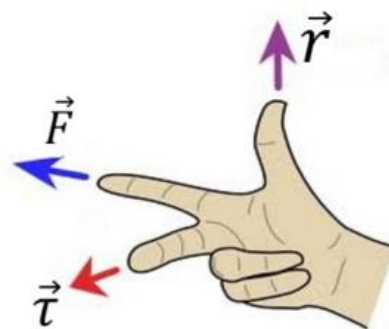

כאשר \vec{r} הוא וקטור שיוצא מהציר עד לנקודה שבה פועל הכוח.

ניתן לחשב את המכפלה באמצעות דטרמיננטה או באמצעות גודל וכיוון גודל המומנט :

$$|\vec{\tau}| = |\vec{r}| |\vec{F}| \sin \alpha = |\vec{F}| r_{\perp}$$

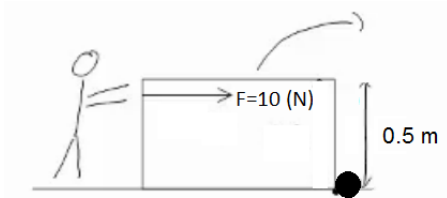
כאשר r_{\perp} הוא הרכיב של \vec{r} המאונך לכוח

כיוון לפי כלל יד ימין או כלל הבורג



משוואת מומנטים : אם גוף נמצא במנוחה אז סכום המומנטים הפועלים עליו שווה לאפס.

שאלות:



(1) מרחק אפקטיבי

אדם דוחף ארגז בגובה 0.5m ומפעיל כוח F (ראו תמונה).

לארגז אין חיכוך עם המשטח.

האדם דוחף את הארגז ללא כל בעיה עד

שנתקע באבן והארגז מתהפך

(מיקום האבן הופך לציר הסיבוב).

חשבו את גודל מומנט הכוח.

תשובות סופיות:

$$|\vec{\tau}| = 5N \cdot m \quad (1)$$

תרגיל - מומנטים על משולש:

שאלות:

(1) מומנטים על משולש

המשולש בתמונה הוא משולש שווה צלעות עם אורך צלע נתונה a .

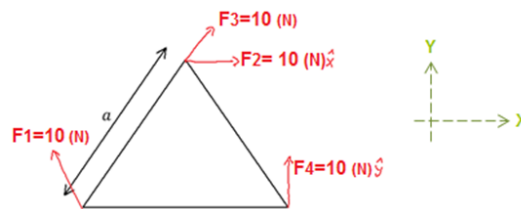
א. חשב את המומנטים של הכוחות בתמונה סביב הפינה השמאלית של המשולש.

ב. נתונה המסה של המשולש M ונתון גם כי מרכז המסה של המשולש

$$\text{נמצא בנק': } \left(\frac{1}{2}a, \frac{1}{2\sqrt{3}}a \right)$$

חשב את מומנט הכוח של כוח הכובד.

ג. חשב שוב את המומנטים סביב ציר העובר במרכז המסה של המשולש, הנח כי הזווית בין F_1 לדופן המשולש היא 60 מעלות.



תשובות סופיות:

$$\tau_g = -Mg \frac{1}{2}a \quad \text{ב.} \quad \tau_1 = 0!, \quad \vec{\tau}_2 = -5 \cdot \sqrt{3}a, \quad \vec{\tau}_3 = 0!, \quad \tau_4 = 10a \quad \text{א.} \quad (1)$$

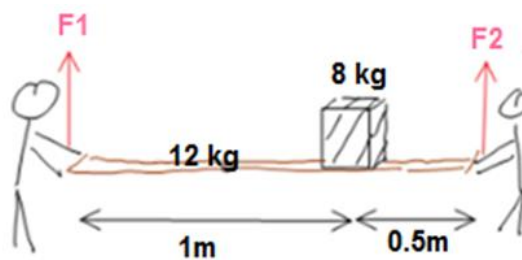
$$\tau_1 = \frac{-10a}{\sqrt{3}}, \quad \tau_2 = -10 \cdot \frac{1}{\sqrt{3}}a, \quad \tau_3 = -\frac{1}{\sqrt{3}}a \cdot 10 \cdot \sin 30^\circ, \quad \tau_4 = 10 \cdot \frac{1}{2}a, \quad \tau_g = 0 \quad \text{ג.}$$

תרגיל - שני פועלים מחזיקים מנשא:

שאלות:

(1) שני פועלים מחזיקים מנשא

שני פועלים מחזיקים מנשא מעץ שמסתו 12kg ואורכו 1.5m. על המנשא, במרחק של 0.5m מהפועל הימני, מונח ארגז בעל מסה של 8kg. בהנחה כי המערכת במנוחה, מצאו את הכוח שמפעיל כל פועל (ראה איור).



תשובות סופיות:

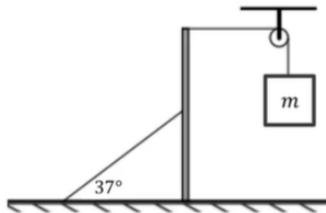
$$F_2 = 113.333\text{N}, F_1 = 86.666\text{N} \quad (1)$$

תרגילים מסכמים:

שאלות:

1) מוט עומד מחובר לחוט ומשקולת

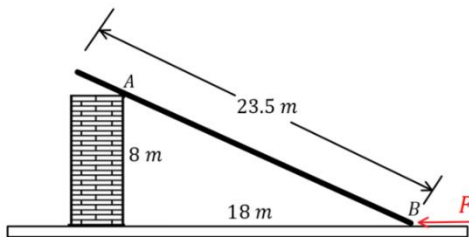
מוט אחיד מונח על משטח אופקי לא חלק, כמוראה בתרשים. המוט מחובר במרכזו לחוט אידיאלי שקצהו השני קשור למשטח ויוצר עימו זווית של 37° . הקצה העליון של המוט מחובר באמצעות חוט אופקי אידיאלי וגלגלת אל משקולת שמסתה $m = 7\text{kg}$. המערכת נמצאת במנוחה.



- מהי המתיחות בחוט המחובר אל המשטח?
- מהו כוח החיכוך שמפעיל המשטח האופקי על המוט?

2) קורה על קיר אנכי

באיור לשאלה זו מתוארת קורה אחידה שאורכה הכולל הוא 23.5m . מסת הקורה היא 140kg .

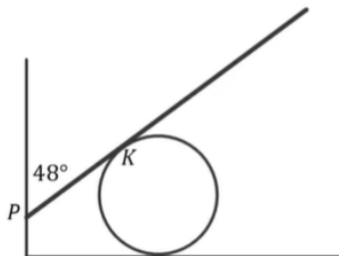


הקורה נשענת בנקודה A על קיר אנכי חלק שגובהו 8m .

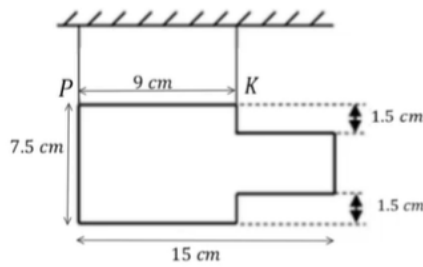
- קצה הקורה מונח על הרצפה בנקודה B במרחק 18m מהקיר ובקצה הזה פועל כוח אופקי F , כמתואר באיור. מקדם החיכוך הסטטי שבין הקורה הרצפה הוא $\mu_s = 0.3$. מהו F המקסימלי הניתן להפעיל כך שהקורה תישאר במנוחה?

3) מוט נשען על כדור

נתון מוט דק שאורכו $L = 3.5\text{m}$ ומסתו $m = 7\text{kg}$. הנשען על כדור חסר חיכוך המודבק לרצפה כמתואר בשרטוט. נקודת המגע של המוט בכדור היא הנקודה K. בקצהו השמאלי נוגע המוט בקיר בעל חיכוך בנקודה P, הזווית שיוצר המוט יחסית לקיר היא 48° . מקדם החיכוך הסטטי שבין הקיר למוט הוא $\mu_s = 0.15$.

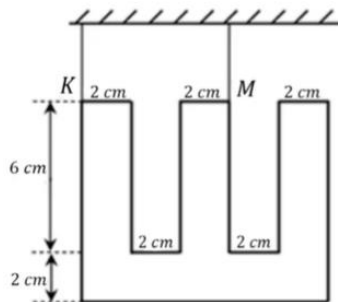


- מהו הכוח שמפעיל הכדור על המוט אם נתון שקצהו הימני של המוט נמצא על סף תנועה כלפי מטה?
- מהו המרחק בין הנקודות P ו-K במצב זה?


(4) טבלה מעץ

טבלה העשויה עץ בעלת עובי אחיד שמסתה 400 גר' וצורתה כמתואר בתרשים, תלויה בשני חוטים בנקודות K ו-P.

- א. חשב את מרכז הכובד של הטבלה ביחס למערכת צירים שראשיתה ממוקמת בנקודה P.
- ב. מצא את המתיחות בשני החוטים.


(5) שלט בצורת האות ש

שלט העשוי מחומר אחיד בצורת האות "ש" (כמשורטט), שמסתו 4 ק"ג, נתלה בשני חוטים בנקודות K ו-M.

- א. חשבו את מרכז המסה של השלט ביחס למערכת צירים שראשיתה ממוקמת בנקודה K.
- ב. מצאו את המתיחות בשני החוטים.

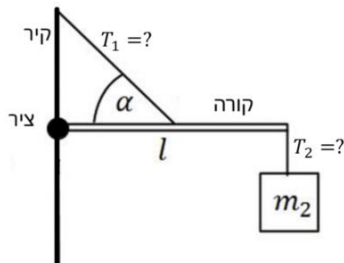
(6) מסה תלויה על קורה שמחוברת לקיר

קורה בעלת מסה m_1 ואורך l מחוברת לקיר באמצעות ציר. בקצה הקורה קשורה מסה m_2 התלויה במנוחה.

מאמצע הקורה יוצא חוט בזווית הקשור חזרה לקיר, הזווית שיוצר החוט עם הקורה היא α .

א. מהי המתיחות בחוטים?


ב. מהו הכוח (גודל וכיוון) שמפעיל הציר?


(7) סולם נשען על קיר

סולם נשען על קיר.

קיים חיכוך סטטי בין הסולם לרצפה וגם בין הסולם לקיר. מקדם החיכוך הסטטי בין הסולם לרצפה ובין הסולם לקיר הוא μ_s . אורך הסולם הוא L וניתן להניח שמסתו מפולגת בצורה אחידה.

מהי הזווית המינימלית עם הרצפה כך שהסולם לא יחליק?



(8) אדם עומד על סולם שנשען על קיר

אדם עומד על סולם שנשען על קיר.

אורך הסולם הוא L וניתן להניח שמסתו מפולגת


בצורה אחידה. האדם עומד על הסולם כשמרחקו מהקצה התחתון של הסולם הוא שני שליש מאורך הסולם.

קיים חיכוך סטטי בין הסולם לרצפה וגם בין הסולם לקיר.

מקדם החיכוך הסטטי בין הסולם לרצפה ובין הסולם לקיר

הוא μ_s . מסת האדם כפולה ממסת הסולם.

מהי הזווית המינימלית עם הרצפה כך שהסולם לא יחליק?



(9) מומנטים על שער

שער שגובהו h ואורכו l מחובר לקיר בשני צירים a ו- b .

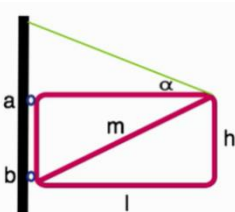
על מנת להקל על הציר העליון חיברו לשער כבל ומתחו

אותו עד אשר הכוח האופקי בנקודה a מתאפס.

א. מהי המתיחות בכבל?

ב. מהו הכוח האופקי הפועל על הציר b ?

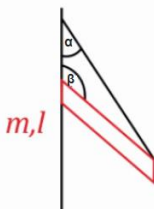
ג. מהו סכום הכוחות האנכיים המופעלים על שני הצירים?



(10) גגון מוחזק אל קיר

גגון מוחזק אל קיר בעזרת חבל וחיכוך כמתואר בשרטוט.

מצא את הכוחות הפועלים על הגגון.

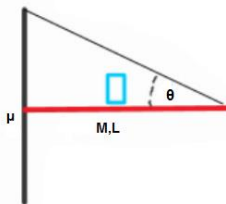


(11) מסה על גגון מחליק

גגון מוחזק לקיר בעזרת חיכוך בלבד לפי הנתונים שבשרטוט.

מהו המרחק הקטן ביותר מהקיר בו ניתן לשים את המסה m

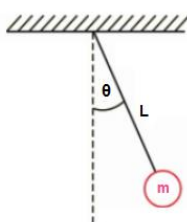
מבלי לגרום לגגון להחליק מהקיר?



(12) מטוטלת מתמטית

מצא את מומנט הכוח המופעל על מטוטלת מתמטית

כפונקציה של הזווית מהאנך.

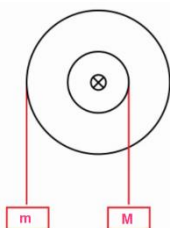


(13) מנוף מדיסקה כפולה

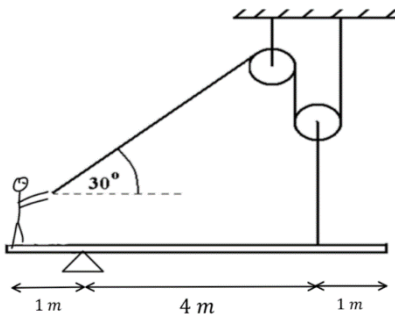
נתונה המערכת שבשרטוט.

רשום את כל הכוחות הפועלים על הדיסקה

ומצא את יחס הרדיוסים בין שתי הדיסקות.



14) אדם על קורה מחזיק בחוט ושתי גלגלות



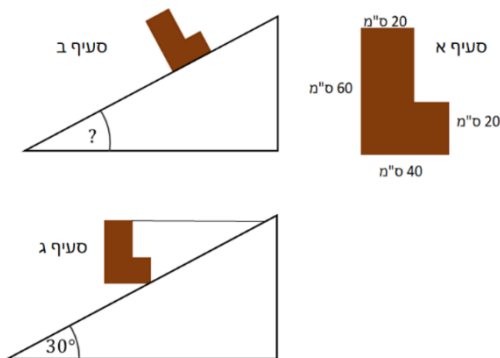
אדם שמסתו 65kg עומד בקצה קורה שמסתה 40kg. הקורה מונחת על ציר הנמצא במרחק 1m מהאדם. האורך הכולל של הקורה הוא 6m. האדם מחזיק בחוט העובר דרך שתי גלגלות כפי שמתואר באיור. הגלגלת השמאלית מחוברת לתקרה, הגלגלת הימנית לקורה במרחק 1m מהקצה השני.

- מהו הכוח בו האדם צריך למשוך את החבל כדי לשמור על מצב של שיווי משקל?
- מהם רכיבי הכוח שהציר מפעיל על הקורה?
- מהו מקדם החיכוך הסטטי המינימאלי בין האדם לקורה כדי שהאדם לא יחליק מהקורה?

15) L על מישור משופע*

באיור נתון גוף משטחי בצורת L.

צפיפות המסה של הגוף היא: $\sigma = 5 \frac{\text{kg}}{\text{m}^2}$.

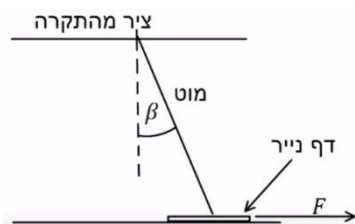


- מהו מרכז המסה של הגוף ביחס לפינה התחתונה השמאלית?
- מניחים את הגוף על מישור משופע. מהי הזווית המקסימאלית של המישור עבורה הגוף לא יתהפך?
- קושרים את הגוף למישור באמצעות חוט אופקי מהפינה הימנית העליונה ומותחים את החוט עד שהגוף מתיישר במקביל לקרקע.

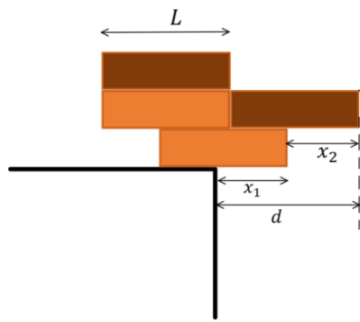
מהי המתוחות בחוט במצב זה אם זווית המישור היא 30° והגוף במנוחה.

16) מוט נשען על דף נייר*

מוט בעל אורך L ומסה M מחובר לתקרה באמצעות ציר. בקצהו השני המוט מונח על דף נייר המונח על הרצפה. מסת דף הנייר זניחה. הזווית בין המוט לאנך היא β ומקדם החיכוך הסטטי בין המוט לנייר ובין הנייר לרצפה הוא μ_s .

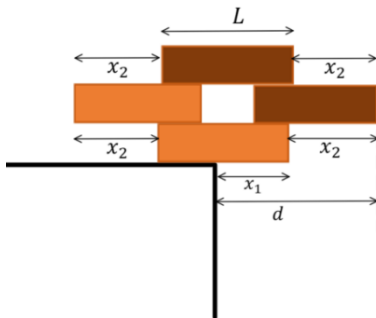


- מושכים את הנייר ימינה בכוח F. מהו הכוח המינימלי הדרוש בשביל להוציא את הנייר מתחת למוט? הנח שהמוט נשאר במנוחה.
- חזור על סעיף א' אם הכוח פועל שמאלה.



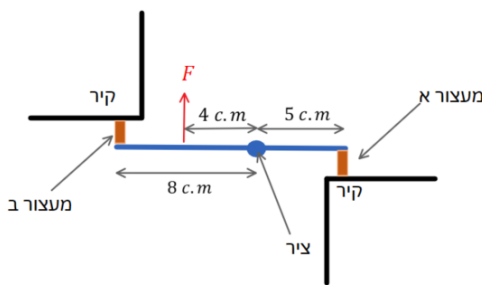
17) ערימת קוביות 1

ערימת קוביות מורכבת מ-4 קוביות זהות באורך L . הקוביות מסודרות באופן שמתואר באיור. מהו המרחק d המקסימאלי האפשרי כך שהערימה לא תיפול מהשולחן. מהם x_1 ו- x_2 במצב זה?




18) ערימת קוביות *2

ערימת קוביות מורכבת מ-4 קוביות זהות באורך L . הקוביות מסודרות באופן שמתואר באיור. מהו המרחק d המקסימאלי האפשרי כך שהערימה לא תיפול מהשולחן. מהם x_1 ו- x_2 במצב זה?



19) מוט עם שני מעצורים מגומי**

באיור ישנו מוט באורך 13c.m. המחובר בציר הנמצא במרחק 5c.m. מהקצה הימני בשני הקצוות של המוט ישנם מעצורים זהים העשויים מגומי. מפעילים כוח $F = 200N$ במרחק 4c.m. שמאלה מהציר, הכוח גורם לכיווץ קטן של המעצורים. המערכת אופקית, כלומר כוח הכובד פועל לתוך הדף וניתן להתעלם ממנו. מהו הכוח שפועל על כל מעצור? רמז: התייחס למעצורים כמו קפיצים בעלי קבוע k זהה.



20) אדם על סולם עם שתי רגליים**

אדם עומד על סולם בעל שתי רגליים המחוברות באמצעות כבל במרכז הסולם. משקל האדם הוא 800 ניוטון וניתן להזניח את משקל הסולם ואת החיכוך עם הרצפה. נתונים אורכי הקטעים הבאים: $KM = OM = 2.34m$, $KP = 1.70m$, $LN = 0.746m$. א. מצא את הכוחות שפועלים בנקודות O ו-K. ב. מצאו את המתוחות בכבל. רמז: יש לעשות משוואה רק על חלק מהסולם.

תשובות סופיות:

$$\text{א. } T_2 \approx 180\text{N} \quad \text{ב. } f_s = T_1 = 70\text{N}, \text{ ימינה.} \quad (1)$$

$$F_{\max} \approx 521\text{N} \quad (2)$$

$$\text{א. } N_2 \approx 110\text{N} \quad \text{ב. } PK \approx 0.84\text{m} \quad (3)$$

$$\text{א. } x_{\text{c.m.}} = 6.6\text{c.m.}, y_{\text{c.m.}} = 3.75\text{c.m.} \quad \text{ב. } T_2 = 3\text{N}, T_1 = 1\text{N} \quad (4)$$

$$\text{א. } x_{\text{c.m.}} = 5\text{c.m.}, y_{\text{c.m.}} \approx 4.4\text{c.m.} \quad \text{ב. } T_K = 6.7\text{N}, T_M = 33.3\text{N} \quad (5)$$

$$\text{א. } T_1 = \frac{(m_1 + 2m_2)g}{\sin \alpha}, T_2 = m_2g \quad (6)$$

$$\text{ב. } F = \sqrt{((m_1 + 2m_2)g \cot \alpha)^2 + (m_2g)^2}, \tan \theta = -\frac{m_2}{m_1 + 2m_2} \tan \alpha$$

$$\tan \theta = \frac{1 - \mu_s^2}{2\mu_s} \quad (7)$$

$$\tan \theta = \frac{11 - 7\mu_s^2}{18\mu_s} \quad (8)$$

(9) ראה סרטון.

(10) ראה סרטון.

(11) ראה סרטון.

$$\sum \tau = -mgl \sin \theta + Tl \sin \theta = -mgl \sin \theta \quad (12)$$

$$\sum \tau = \frac{m}{M} = \frac{r}{R} \quad (13)$$

$$\text{א. } T_1 = 20\text{N} \quad \text{ב. } F_x = 10\sqrt{3}\text{N}, F_y = 1000\text{N} \text{ שמאלה} \quad (14)$$

$$\mu_{s\min} = 0.027 \quad \text{ג.}$$

$$\text{א. } x_{\text{c.m.}} = 0.15\text{m}, y_{\text{c.m.}} = 0.25\text{m} \quad \text{ב. } \alpha = 31^\circ \quad (15)$$

$$\text{ג. } T = 3.3\text{N}$$

$$\text{א. } F_{\min} = \frac{\mu_s mg \sin \beta}{\sin \beta + \mu_s \cos \beta} \quad \text{ב. } F_{\min} = \frac{\mu_s mg \sin \beta}{\sin \beta + \mu_s \cos \beta} \quad (16)$$

$$x_1 = \frac{5L}{8}, x_2 = \frac{L}{2}, d = \frac{9L}{8} \quad (17)$$

$$x_1 = \frac{L}{2}, x_2 = \frac{2L}{3}, d = \frac{7L}{6} \quad (18)$$

$$F_R \approx 45\text{N}, F_L \approx 72\text{N} \quad (19)$$

$$\text{א. } N_O \approx 291\text{N}, N_k = 509\text{N} \quad \text{ב. } T_L \approx 196\text{N} \quad (20)$$

פיזיקה להנדסאי בניין

פרק 14 - אופטיקה

תוכן העניינים

1. מבוא לאופטיקה 161

מבוא לאופטיקה:

רקע:

$$n_1 \sin \theta_1 = n_2 \sin \theta_2 : \text{חוק סנל}$$

$$\frac{1}{u} + \frac{1}{v} = \frac{1}{f} : \text{נוסחת העדשות}$$

$$m = \frac{H_i}{H_o} = \frac{|v|}{|u|} : \text{הגדלה קווית}$$

$$C = \frac{1}{f} : \text{עוצמת העדשה}$$


שאלות:

1) תרגול אור במרחב

- מציבים מקור אור נקודתי מול מסך במרחק 4m מהמסך.
 במרחק 1m ממקור האור מציבים מחסום בגובה 1.5m.
- שרטט את הבעיה בקנה מידה לבחירתך.
 - מצא את גודלו של הצל על הקיר:
 - בעזרת שרטוט.
 - בעזרת חישוב.
 - היכן היה צריך למקם המחסום, כדי שגודל הצל יהיה 2.5m?
 - מוסיפים מקור אור זהה (בניסוי המקורי), במרחק של 1m מתחת למקור הראשון. מצא, בעזרת שרטוט, את אזורי האור והצל השונים שמתקבלים.

2) תרגול אור במרחב

- מהירות האור בריק היא: $C = 3 \cdot 10^8 \frac{\text{m}}{\text{sec}}$.
- היעזר בדף הנוסחאות, ומצא תוך כמה זמן מגיעה קרן אור שמוחזרת מהירח – אל כדור הארץ.
 - מצא תוך כמה זמן מגיעה קרן היוצאת מהשמש אל כדור הארץ.
 - אם אני מדליק פנס עכשיו, וחבר נמצא במרחק 3m ממני, תוך כמה זמן יגיע אליו האור מהפנס, מרגע שהדלקתי אותו?
 - שנת אור מוגדרת כמרחק שאור עובר בשנה. מצאו מהי שנת אור בעזרת הגדרה זו.

(3) החזרה תרגיל 1

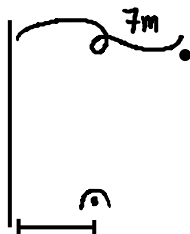
נתון מקור אור הפולט אור ומולו מוצבת מראה.
 הזווית α בשרטוט שווה 76° .

- מה זווית ההחזרה של הקרן המשורטטת בתרשים?
- מצא, בעזרת שתי קרניים נוספות לבחירתך, את מיקום הדמות המדומה של העצם הנ"ל.
- מצא את שדה הראייה של העצם הנ"ל.
- מכסים בבד סגול את החצי העליון של המראה. האם עדיין תיווצר דמות של העצם?

(4) החזרה תרגיל 2

נתון התרשים הבא, בו נער בגובה 1.7m עומד לפני מראה.
 א. שרטט קרן אור היוצאת מידו הימנית של הנער, פוגעת במראה וחוזרת לעיניו (הקרן מייצגת את הקרן/ הקרניים, שבזכותן הנער רואה את ידו במראה).
 ב. שרטט (הכי מדויק שאפשר), את דמות הנער במראה.
 ג. מציבים מאחורי המראה מסך סגול. האם עדיין יראה הנער את דמותו?

- מה הגובה המינימאלי של המראה שיש להציב, כדי שדמות הנער תתקבל במלואה?
- מרחיקים את המראה למרחק כפול מגוף הנער. כיצד תשתנה תשובתך לסעיף ד'?

(5) החזרה תרגיל 3

מציבים מטבע מול מראה, במרחק 7m ממנה, כמתואר בתרשים.
 אדם שנמצא במורד התרשים רואה את המטבע בזווית 30° , ביחס לקו המקביל למראה, ואת דמותו של המטבע בזווית 50° .
 חשב את מרחקו של האדם מהמראה.

(6) תרגול חוק סנל 1

- קרן לייזר מתקדמת במים ($n_{\text{water}} = 1.33$), ופוגעת במשטח זכוכית ($n_{\text{glass}} = 1.5$).
 חלק מהקרן נשבר לזכוכית וחלק מוחזר.
 הזווית בין פני המים והקרן הפוגעת היא 60° .
- חשבו את זווית השבירה.
 - שרטטו את המקרה הנ"ל.

(7) תרגול חוק סנל 2

תלמיד שלח קרני אור בזוויות שונות מאוויר לעבר חומר שקוף בעל מקדם שבירה לא ידוע, ומדד את זוויות הפגיעה והשבירה המתאימה לה לזוויות פגיעה שונות. תוצאות המדידות בטבלה שלפניך:

θ_1	θ_2
0	0
10	7.33
20	14.57
30	21.57
40	28.21
50	34.28
60	39.55
70	43.71
80	46.40

- א. האם גרף $\theta_2(\theta_1)$ מצופה שיצא לינארי?
 ב. הגדר משתנים עבורם כן תצפה לקבל גרף לינארי.
 ג. שרטט גרף לינארי זה.
 ד. מצא, בעזרת הגרף, את מקדם השבירה של החומר השקוף הלא ידוע.

(8) החזרה גמורה תרגיל 1

קרן אור מתקדמת בזכוכית ($n = 1.5$), ופוגעת בגבול בין זכוכית זו ובין מים ($n = 1.33$), בזוויות:

א. $\theta_1 = 0^\circ$

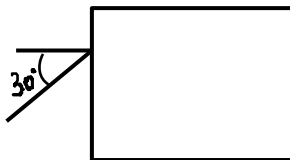
ב. $\theta_1 = 30^\circ$

ג. $\theta_2 = 70^\circ$

שרטט את המשך מהלך הקרן, לאחר הפגיעה, בכל אחד משלושת המקרים.

(9) החזרה גמורה תרגיל 2

נתון מלבן מפרספקס $n = 1.5$, כמתואר בתרשים. קרן אור, המגיעה משמאל, פוגעת בפרספקס בזווית פגיעה של 30° . השלם את מהלך הקרן בתוך הפרספקס.

**(10) עדשה מרכזת - תרגיל 1**

נתונה עדשה מרכזת בעלת מוקד $f = 8\text{cm}$.

נתון עצם, בגובה $H_0 = 4\text{cm}$ המונח במרחק 12cm מהעדשה.

א. מצא בעזרת שרטוט את:

i. מיקום הדמות הנוצרת.

- ii. גובה הדמות.
- iii. ההגדלה הקווית.
- ב. מצא בעזרת חישובים את:
 - i. מיקום הדמות.
 - ii. גובה הדמות.
 - ג. מצא מה אופי הדמות.
 - ד. שרטט שתי קרניים היוצאות ממרכז העצם, פוגעות בעדשה וממשיכות לצדה השני.

11) עדשה מרכזת - תרגיל 2

- לעדשה מרכזת מרחק מוקד של 11cm.
- מציבים עצם, שגובהו 5cm, במרחק 4cm מעדשה זו.
- א. מצא בעזרת שרטוט את:
 - i. מרחק הדמות מהעדשה.
 - ii. גובה הדמות.
 - iii. ההגדלה הקווית.
 - ב. מצא בעזרת חישוב מספרי את:
 - i. מרחק הדמות מהעדשה.
 - ii. גובה הדמות.
 - השווה תשובותיך לסעיף ב, עם אלה של סעיף א.
 - ג. מניחים מסך במיקום הדמות. האם ניתן לראות את הדמות על המסך?
 - ד. מניחים וילון שחור על המחצית העליונה של העדשה (מכסים אותה). האם ניתן לראות את הדמות?
 - ה. מסירים וילון זה. ומניחים אותו בין העצם ודמותו. האם עכשיו ניתן לראות את דמות העצם?

12) עדשה מפזרת – תרגיל 1

- נתונה עדשה שעוצמתה $C = 10D$.
- לפני העדשה, במרחק $u = 8\text{cm}$, מניחים עצם שגובהו $H_0 = 4\text{cm}$.
- א. מצא בעזרת חישוב את:
 - i. מיקום הדמות.
 - ii. גובהה.
 - iii. אופי הדמות.
 - ב. מצא בעזרת שרטוט את:
 - i. מיקום הדמות.
 - ii. גובהה.
 - ג. מהיכן ניתן לראות את הקצה העליון של דמות העצם (שדה ראייה)?

13) בגרות 2017 שאלה 6

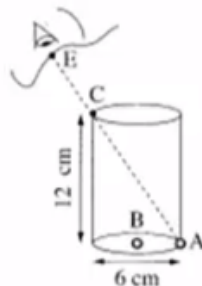
רמי ישב ליד בריכה ריקה. בתחתית הבריכה הונח מטבע, אבל ממקום מושבו של רמי לא היה אפשר לראות את המטבע כשהבריכה ריקה. התחילו למלא את הבריכה במים, וברגע מסוים ראה רמי את המטבע (רמי והמטבע לא זזו). מקדם השבירה של המים הוא: $n = 1.33$.

א. הגדר את תופעת השבירה של האור, וציין את סיבתה.
 ב. הסבר מדוע ראה רמי את המטבע רק לאחר שהבריכה התמלאה חלקית במים. לווה את תשובתך בסרטוט מהלך קרניים.

נתון: קרן היוצאת מן המטבע ומגיעה לעין של רמי עוברת בתוך המים מרחק $d = 0.61\text{m}$.
 זווית השבירה של קרן זו היא: $\beta = 13.6^\circ$.
 ג. חשב את עומק המים.

14) בגרות 2016 שאלה 7

בתרשים שלפניך מוצב כלי ריק שצורתו גליל. גובה הכלי 12cm וקוטרו 6cm . בתחתית הכלי מונחים שני חרוזים קטנים מאוד: חרוז A צמוד לדופן הכלי וחרוז B במרכז התחתית של הכלי.



תלמיד הביט אל תוך הכלי בכיוון EC (הנקודה C נמצאת על שפת הכלי). כאשר הכלי היה ריק התלמיד ראה את חרוז A בלבד. מילאו את הכלי עד שפתו בנוזל שקוף. התלמיד הסתכל באותו כיוון וראה את חרוז B בלבד.

א. העתק את תרשים הכלי והעין למחברתך בלי הקו המקווקו. הוסף לתרשים שבמחברתך קרן אור שמגיעה מחרוז B, עוברת בתוך הנוזל אל נקודה C ומגיעה לעין התלמיד.

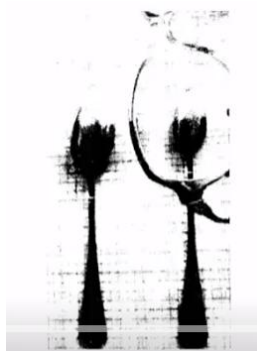
סמן בתרשים שבמחברתך את זווית הפגיעה (α) ואת זווית השבירה (β) במעבר של קרן האור מהנוזל לאוויר.

ב. חשב את מקדם השבירה של הנוזל.

ג. קבע אם חרוז B נראה לתלמיד בעומק האמיתי שהוא היה בו, גבוה יותר או נמוך יותר. נמק את קביעתך באמצעות סרטוט תרשים נוסף של הכלי ומהלך הקרניים.

15) בגרות 2016 שאלה 6

תלמידה רצתה לבדוק את סוג העדשות במשקפיים של דודתה. לשם כך הניחה התלמידה שתי כפיות זהות על השולחן, והניחה עדשה של המשקפיים מעל אחת הכפיות. בתרשים שלפניך נראה תצלום הכפיות והמשקפיים שצילמה התלמידה.



- א. בכל אחת מן האפשרויות i-iii שלפניך, קבע מהו המאפיין הנכון של דמות הכפית הנראית מבעד לעדשה:
- i. ישרה או הפוכה.
 - ii. ממשית או מדומה.
 - iii. מוגדלת או מוקטנת.
- ב. האם העדשה מרכזת או מפזרת? נמק את תשובתך.
- ג. מצא את דמות הכפית באמצעות סרטוט מדויק של מהלך שלוש קרניים. נתון: רוחק מוקד העדשה: $|f| = 12\text{cm}$, מרחק העצם מהעדשה 6cm, גובה העצם 3cm.
- בסרטוט השתמש בקנה מידה של 1 משבצת=1 ס"מ.
- ד. חשב באמצעות נוסחאות את גובה הדמות ואת מרחקה מהעדשה. האם תוצאות החישוב מתאימות לאותם ערכים שהתקבלו בסרטוט?

16 בגרות 2015 שאלה 7

ילד הלובש חולצה שעליה מודפסת האות F עומד מול מראה מישורית התלויה על קיר (ראה איור).



- א. מהי התופעה הפיזיקאלית שגורמת להשתקפות הילד רק במראה ולא בקיר?
 ב. המרחק של הילד מן המראה היה 1 מטר, והוא החל להתקרב אליה

$$v = 0.5 \frac{\text{m}}{\text{sec}}$$

- במהירות קבועה:
 חשב בתוך כמה זמן יהיה המרחק בין הילד ובין דמותו 0.5 מטר.
 ג. לפניך ארבע צורות IV-I של האות F. העתק למחברתך את המספר של צורת הדמות של האות F, כפי שהילד שמסתכל במראה רואה אותה.

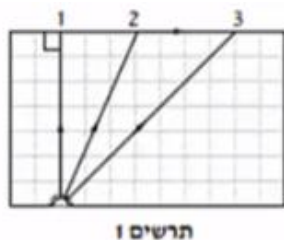


17 בגרות 2014 שאלה 6

- יאיר ישב במכונית ורצה לעיין במפה שבידיו (זה היה לפני עידן ה-G.P.S).
 בחוץ שרר חושך, ולכן יאיר הדליק נורה בתוך המכונית.
 א. כדי שיראה היטב את המפה, האם על יאיר לכוון את אלומת האור מן הנורה לעבר עיניו או לעבר המפה? נמק.

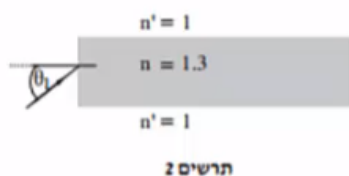
- לאחר שיאיר הדליק את הנורה הוא התבונן בשמשת החלון של מכוניתו. הוא לא ראה את הסביבה שבחוץ, אלא את דמותו המשתקפת בשמשת החלון.
 ב. הסבר באמצעות תרשים כיצד נוצרת הדמות המשתקפת בשמשת החלון.

- יאיר מאס בפקקי התנועה שבכבישים, והחליט לנסוע ברכבת. בתוך קרון הרכבת דלק אור, ומחוץ לרכבת שרר חושך. יאיר הבחין בשתי דמויות שלו המשתקפות בחלון הרכבת. חלון הרכבת מורכב משני לוחות זכוכית מקבילים וביניהם מרווח שבו שכבת אוויר.
 אפשר להזניח את העובי של לוחות הזכוכית.
 ג. מדוע ברכבת הבחין יאיר בשתי דמויות, ולא בדמות אחת, כפי שראה במכוניתו? פרט את תשובתך.
 ד. באותם תנאי תאורה הכניסו נייר שחור למרווח שבין שני לוחות הזכוכית. הנייר אוטם את כל המרווח. כמה דמויות השתקפו בחלון? נמק.

18) בגרות 2014 שאלה 7


מקור אור נקודתי נמצא בתוך מנסרה מלבנית (תיבה) העשויה מחומר שקוף. המנסרה נמצאת באוויר. בתרשים 1 מוצג חתך של המנסרה המקביל לשתיים מדופנות המנסרה, וכן מוצג בו מהלכן של שלוש קרניים 1, 2, 3, שמקורן במקור האור. זווית השבירה של קרן 2 היא 90° בקירוב.

- א. העתק את תרשים 1 למחברתך, והשלם בו במדויק את המשך המהלך של קרן 1 ושל קרן 3. הסבר את שיקולך.
 ב. על פי התרשים, חשב את הזווית הגבולית (קריטית) למעבר אור מן החומר השקוף לאוויר.

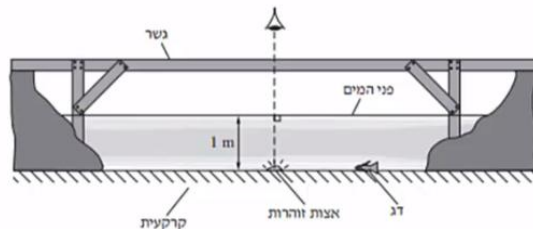


אפשר להעביר מידע למרחקים גדולים באמצעות סיבים אופטיים שאור מתפשט דרכם כמעט בלי הפסדי אנרגיה. בתרשים 2 מתואר חתך של סיב אופטי העשוי מחומר שקוף שמקדם השבירה שלו: $n = 1.3$, וקרן אור נכנסת לתוכו מן האוויר בזווית פגיעה θ_1 .

- ג. כאשר האור נכנס לסיב מהצד (כמתואר בתרשים 2), זווית הפגיעה θ_1 צריכה להיות קטנה מ- 57° כדי למנוע דליפת (יציאת) אור מהסיב לאוויר. הסבר מדוע. בתשובתך היעזר בתרשים.

19) בגרות 2013 תרגיל 1

בגן חיות יש בריכה ובה דגים ויצורי מים מיוחדים. מושבה של אצות זוהרות (פולטות אור) נחה על קרקעית הבריכה, בעומק של 1 מטר. מקדם השבירה של מי הבריכה ביחס לאוויר הוא: $n = 1.33$. מעל הבריכה נמתח גשר שממנו המבקרים יכולים לצפות בבריכה (ראה תרשים). התייחס למושבת האצות כאל מקור אור נקודתי.

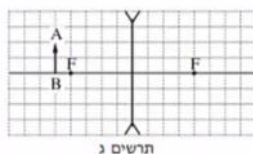
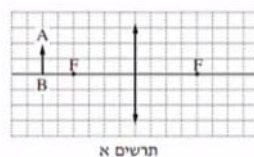
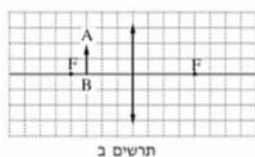


- א. האור שנפלט ממושבת האצות לעבר פני המים עובר לאוויר דרך משטח מעגלי של פני המים. הסבר מדוע. היעזר בתרשים מתאים.
 ב. חשב את הרדיוס של המשטח המעגלי שהאור עובר דרכו לאוויר.
 ג. אדם הניצב על הגשר בדיוק מעל מושבת האצות רואה אותה בעומק קטן יותר מהעומק האמיתי שהיא נמצאת בו. הסבר מדוע.

- ד. דג השוחה על קרקעית הבריכה, בעומק 1 מטר, רואה את השתקפות האצות באמצעות קרני אור המוחזרות מפני המים. חשב את המרחק (האופקי) המינימלי בין הדג לבין מושבת האצות, שהוא יכול לראות בו את השתקפות האצות באמצעות קרני אור המוחזרות בהחזרה מלאה.
- ה. כאשר הדג בעומק של 1 מטר, אבל המרחק בינו לבין מושבת האצות קטן יותר מהמרחק שחיבת בסעיף ד', הוא עדיין רואה את השתקפות האצות בפני המים. הסבר מדוע.

20 בגרות 2013 שאלה 6

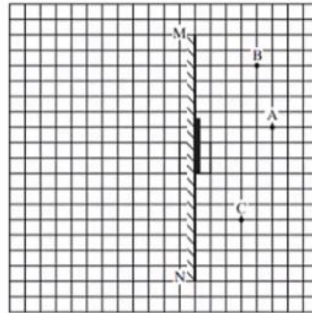
- אדם המרכיב משקפיים עם עדשות מרכזות זהות רואה בעזרתם את הדמות המדומה של עצם.
- א. הסבר את המושגים "דמות ממשית" ו"דמות מדומה", בהסברך תוכל להיעזר בתרשימים.
- ב. בתרשימים אי-ג' שלפניך החץ AB מייצג את העצם. קבע איזה תרשים מתאים לתיאור שבפתיח. נמק את קביעתך.



- ג. עוצמת העדשה היא 2 דיופטריות. מהו רוחק המוקד של העדשה?
- ד. המרחק בין הדמות לעדשה הוא 60cm. חשב את המרחק בין העצם לעדשה.

21 בגרות 2012 שאלה 1

- עצם ניצב לפני משטח מישורי.
- א. מה צריך להתקיים כדי שתיווצר דמות של העצם על ידי המשטח?
- ב. כאשר נוצרת דמות של העצם על ידי המשטח, איזה תנאי חייב להתקיים כדי שצופה המתבונן במשטח יראה בו את הדמות של העצם?
- באיור שלפניך מתואר חתך של מראה מישורית MN המכוסה במרכזו בכיסוי בד אטום. בנקודה A נמצא עצם נקודתי.
- בכל אחת מהנקודות B ו-C נמצא צופה (צופה B, צופה C). הנקודות A, B, C נמצאות על אותו מישור.

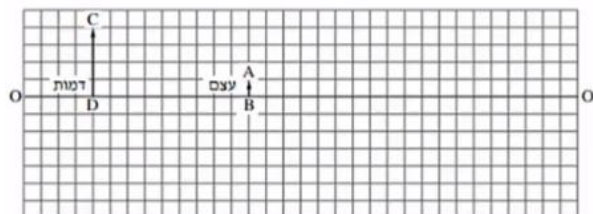


העתק למחברתך את התרשים כך שכל משבצת בתרשים תיוצג בתרשים תיוצג על ידי משבצת במחברתך.

- ג. האם צופה B וצופה C רואים את הדמות A באותו מקום? הסבר.
- ד. צלע של משבצת אחת מייצגת מרחק של 20 ס"מ במציאות. חשב את המרחק של הצופה הנמצא בנקודה C מהדמות של העצם A.
- ה. צופה C מביט אל עבר המראה, אך אינו רואה בה את דמות העין של צופה B. האם צופה B המביט אל עבר המראה רואה בה את דמות העין של צופה C? הסבר.

22) בגרות 2011 שאלה 1

בתרשים שלפניך הקטע OO' מסמן ציר אופטי של עדשה דקה (העדשה אינה מוצגת בתרשים). הקטע AB מסמן עצם, והקטע CD מסמן את הדמות של העצם הנוצרת בעזרת העדשה. הצלע של כל משבצת בתרשים – 1 ס"מ.



א. מדוע הדמות המתוארת בתרשים יכולה להיווצר רק בעזרת עדשה מרכזת?

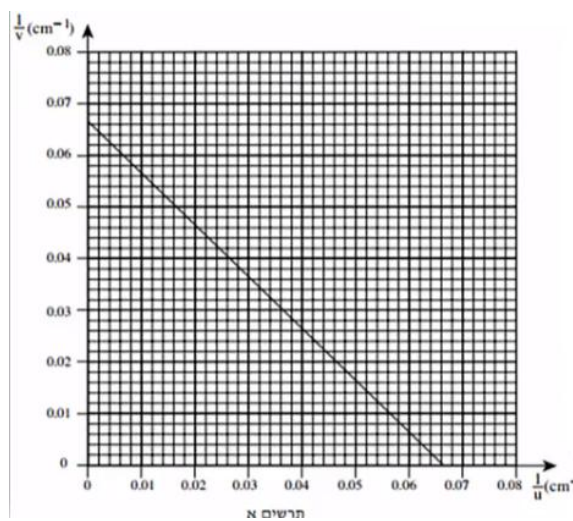
- העתק למחברתך את התרשים כך שכל משבצת בתרשים תיוצג על ידי משבצת במחברתך. השתמש בתרשים שסרטטת כדי לענות על סעיפים ב'-ג'.
- ב. מצא, בעזרת סרטוט של מהלך קרני האור, את מיקום העדשה, והוסף אותה לתרשים.
 - ג. מצא את רוחק המוקד של העדשה בשתי דרכים:
 - i. סרטוט של מהלך קרני האור.
 - ii. חישוב.
 - ד. כשהמרחק בין העצם לעדשה גדול מערך מסוים u_1 , נוצרת דמות הפוכה ביחס לעצם. קבע מהו u_1 .
 - ה. כשהמרחק בין העצם לעדשה שווה לערך מסוים u_2 , הגדול מ- u_1 , נוצרת דמות באותו גובה של הדמות CD שבתרשים. מצא את u_2 .

23) בגרות 2009 שאלה 1

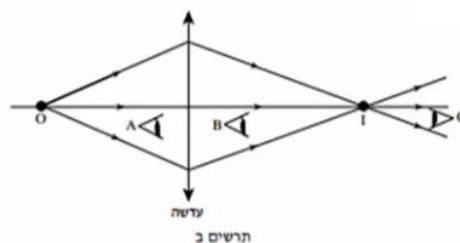
ברק הציב מקור אור במרחקים שונים מעדשה דו-קמורה דקה. בכל פעם הוא מדד את המרחק של מקור האור מן העדשה (u), ואת המרחק של המסך שעליו התקבלה דמות חדה של מקור האור מן העדשה (v). לאחר מכן הוא חישב את ערכי $\frac{1}{u}$ ו- $\frac{1}{v}$, ועל פי ערכים אלה סרטט גרף של $\frac{1}{v}$ (ביחידות cm^{-1}) כפונקציה

של $\frac{1}{u}$ (ביחידות cm^{-1}).

הגרף מוצג בתרשים א'.



- הסבר מדוע הגרף שהתקבל הוא קו ישר.
- מצא בעזרת הגרף את רוחק המוקד של העדשה. פרט את חישוביך.
- כאשר הציב ברק את מקור האור במרחק 10 ס"מ מן העדשה, הוא לא הצליח למקם את המסך כך שתתקבל עליו דמות חדה של מקור האור. הסבר מדוע.
- בתרשים ב' שלפניך מתואר עצם נקודתי O ודמותו I, הנוצרת על ידי עדשה מרכזת דקה.



האם אפשר לראות את הדמות I גם ללא מסך?
 אם כן – באיזו מהנקודות A, B או C צריכה להימצא העין (על פי כיווני ההסתכלות שלה המתוארים בתרשים) כדי לראות את הדמות I?
 אם לא – היעזר בתרשים ב', והסבר מדוע אי-אפשר לראות את הדמות ללא מסך.

ה. בתרשים ג' שלפניך מתואר חתך של עדשה קמורה-קעורה דקה עשויה מזכוכית. מטיילים על העדשה פעמיים אלומת אור מקבילה ואופקית, המתפשטת באוויר:

במקרה i אלומת האור פוגעת תחילה במשטח הקמור.

במקרה ii אלומת האור פוגעת תחילה במשטח הקעור.



העתק למחברתך את המספר של המשפט הנכון מבין המשפטים i-iv שלפניך:

- i. העדשה מרכזת את האור בשני המקרים.
- ii. העדשה מרכזת את האור במקרה i ומפזרת אותו במקרה ii.
- iii. העדשה מפזרת את האור במקרה i ומרכזת אותו במקרה ii.
- iv. העדשה מפזרת את האור בשני המקרים.

24 בגרות 2007 שאלה 2

על ספסל אופטי המונח על שולחן, מציבים מקור אור שצורתו מלבן (מלבן מלא).

עדשה מרכזת שרוחק המוקד שלה הוא: $f = 30\text{cm}$, ומסך.

מקור האור, העדשה והמסך מקבילים זה לזה.

שתיים מהצלעות של מקור האור המלבני מאונכות לשולחן. הדמות של מקור

האור מתקבלת על המסך, וגובהה גדול פי 2 מהגובה של מקור האור.

א. חשב את המרחק של מקור האור מן העדשה.

ב. פי כמה גדול שטח הדמות מהשטח של מקור האור? נמק.

ג. מציבים את מקור האור במרחק 160cm מן המסך.

באיזה מרחק ממקור האור יש להציב את העדשה, כדי שתתקבל על

המסך דמות חדה שלו? אם יש יותר מאפשרות אחת, כתוב את כולן.

האיור שלפניך הוא העתק של תצלום שבו מראה מישורית המונחת על לוח עץ, ופנס.

הפנס פולט אלומת אור הפוגעת בלוח העץ ובמראה שעליו. מלבד הפנס אין מקורות

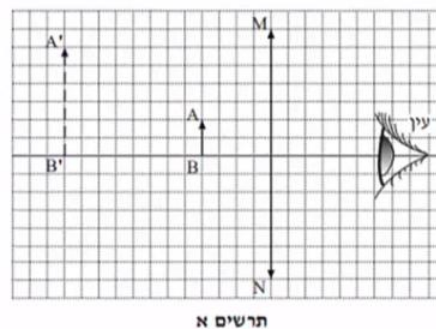
אור נוספים.



ד. מדוע המראה שבתצלום נראית חשוכה, ואילו החלק של לוח העץ שבו פוגעת אלומת האור נראה מואר?

25) בגרות 2004 שאלה 1

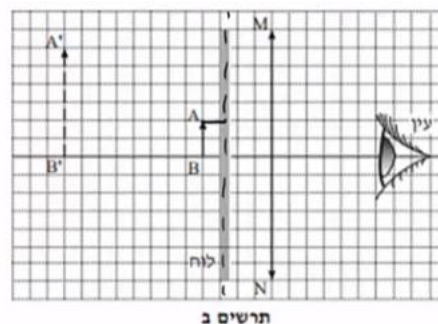
בתרשים א' מוצגת מערכת, ובה עדשה מרכזת, MN , הציר האופטי שלה, בול דואר, AB , הדמות של הבול, $A'B'$, הנוצרת על ידי העדשה, ועין הצופה המתבונן בבול. אורך הצלע של כל משבצת בתרשים מייצג מרחק של 5 ס"מ במציאות.



א. ענה על הסעיפים הבאים:

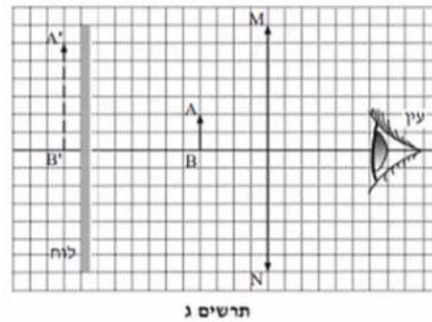
- i. מצא את אורך מוקד העדשה.
- ii. חשב את עוצמת העדשה. הצג את תשובתך בדיופטר.

באותה מערכת מציבים לוח אטום לאור לפני הבול, בין הבול לעדשה (ראה תרשים ב').



ב. האם במצב זה יוכל הצופה לראות את הבול? נמק.

את הלוח האטום לאור מעבירים אל מאחורי הבול, כמוצג בתרשים ג'.



ג. האם במצב זה יוכל הצופה לראות את הבול? נמק.

ד. מסלקים את הלוח האטום. הבול, העדשה והעין נשארים במקומם. הצופה מתבונן בבול דרך העדשה (ראה תרשים א'), ואחר כך הוא מסלק את העדשה ומתבונן בבול.

באיזה משני המצבים (עם העדשה או בלי העדשה) הבול נראה לצופה גדול יותר? הסבר את תשובתך במונחים של זוויות ראייה.

ה. העתק למחברתך את תרשים א'. (כל משבצת בתרשים תהיה משבצת במחברת). סרטט קרן, המופצת מראש הבול (A), עוברת בעדשה, וחודרת למרכז האישון של עין הצופה.

תאר כיצד קבעת את מהלך הקרן שסרטטת.

תשובות סופיות:

- 1 א. ראה סרטון. ב. i. 6m . ד. ראה סרטון. ג. 2.4m . ii. 6m .
- 2 א. $t = 1.28 \text{ sec}$. ב. $t \cong 8\frac{1}{3} \text{ min}$. ג. $t = 10^{-9}$. ד. $9.47 \cdot 10^{15} \text{ m}$.
- 3 א. ראה סרטון. ב. ראה סרטון. ג. ראה סרטון. ד. ללא שינוי.
- 4 א. ראה סרטון. ב. ראה סרטון. ג. כן. ד. 0.85m .
- 5 2.43m .
- 6 א. 26.3° . ב. ראה סרטון.
- 7 א. לא. ב. $\sin \theta_2 = \frac{n_1}{n_2} \cdot \sin \theta_1$. ג. ראה סרטון. ד. 1.353 .
- 8 א. ראה סרטון. ב. ראה סרטון. ג. הפוכה, מוגדלת, ממשית. ד. ראה סרטון.
- 9 א. ראה סרטון. ב. ראה סרטון. ג. לא. ד. כן.
- 10 א. ראה סרטון. ב. i. $V = 24 \text{ cm}$. ii. $H_i = 8 \text{ cm}$. ג. הפוכה, מוגדלת, ממשית. ד. ראה סרטון.
- 11 א. ראה סרטון. ב. i. $V \approx 6.5 \text{ cm}$. ii. $H_i \approx 7.95 \text{ cm}$. ג. לא. ד. כן. iii. מדומה, מוקטנת, ישרה.
- 12 א. i. $V = -4.4 \text{ cm}$. ii. $H_i = 2.2 \text{ cm}$. ב. ראה סרטון. ג. ראה סרטון. ד. כן.
- 13 א. ראה סרטון. ב. ראה סרטון. ג. $h = 0.6 \text{ m}$.
- 14 א. ראה סרטון. ב. 1.85 . ג. נמוך יותר.
- 15 א. i. ישרה. ii. מדומה. iii. מוקטנת. ב. מפזרת. ג. ראה סרטון. ד. $V = 4 \text{ cm}$, $H_i = 2 \text{ cm}$, כן.
- 16 א. החזרה מסודרת, מתקבלת דמות במפגש הקרניים המוחזרות. ב. 1.5sec . ג. IV .
- 17 א. לעבר המפה. ב. ראה סרטון. ג. כל משטח מתפקד כמראה עצמאית. ד. דמות 1 .
- 18 א. ראה סרטון. ב. $\theta_c = 23.2^\circ$. ג. ראה סרטון.
- 19 א. ראה סרטון. ב. $r = 1.14 \text{ m}$. ג. ראה סרטון. ד. $x = 2.28 \text{ m}$.
- 20 א. דמות ממשית – מתקבלת במפגש המשכי הקרניים הממשיות. ב. תרשים ב'. ג. 50cm . ד. $u = 27.3 \text{ cm}$.

- (21) א. 1. קרניים שיצאו מהסוף, 2. ההחזרה מהמשטח תהיה מסודרת.
 ב. הצופה יימצא בשדה בראייה של הדמות. ג. כן. ד. $2m$.
 ה. לא.
- (22) א. הדמות לא יכולה להיווצר בעדשה מפזרת. ב. ראה סרטון.
 ג. $4cm$. ד. $u > f$. ה. $u_2 = 8cm$.
- (23) א. ראה סרטון. ב. $15.1cm$. ג. ראה סרטון.
 ד. כן. ה. i.
- (24) א. $u = 45cm$. ב. פי 4. ג. $u_1 = 120cm, u_2 = 40cm$.
 ד. ראה סרטון.
- (25) א. i. $f = 30cm$. ii. $C = 3.33D$. ב. לא. ג. כן.
 ד. ראה סרטון. ה. ראה סרטון.