

# סטטיסטיקה למנהלים



$$\{\sqrt{x}\}^2$$



## תוכן העניינים

1. סטטיסטיקה תיאורית- סיווג משתנים וסולמות מדידה ..... 1
2. סטטיסטיקה תיאורית- הצגה של נתונים ..... 6
3. סטטיסטיקה תיאורית- סכימה ..... 14
4. סטטיסטיקה תיאורית- מדדי מרכז ..... (ללא ספר)
5. סטטיסטיקה תיאורית- מדדי פיזור ..... (ללא ספר)
6. סטטיסטיקה תיאורית- מדדי מיקום יחסי-ציון תקן ..... 18
7. סטטיסטיקה תיאורית-אחוזונים בטבלה בדידה ..... 20
8. המשתנה המקרי הבדיד- טרנספורמציה לינארית ..... 22
9. סטטיסטיקה תיאורית- ניתוח פלטים ..... 25
10. סטטיסטיקה תיאורית שאלות אמריקאיות ..... 27
11. קשר בין משתנים ..... (ללא ספר)
12. התפלגות נורמלית ..... (ללא ספר)
13. הסקה סטטיסטית - הקדמה ..... 34
14. התפלגות הדגימה ומשפט הגבול המרכזי מנהל ..... (ללא ספר)
15. מבוא לבדיקת השערות על פרמטרים ..... 37
16. בדיקת השערות על תוחלת (ממוצע) ..... 43
17. בדיקת השערות על פרופורציה ..... 59
18. מבחני חי בריבוע ..... 66

# סטטיסטיקה למנהלים

פרק 1 - סטטיסטיקה תיאורית- סיווג משתנים וסולמות מדידה

תוכן העניינים

1. סולמות מדידה.....1

## סטטיסטיקה תיאורית – סיווג משתנים וסולמות מדידה:

### רקע:

סטטיסטיקה תיאורית הוא ענף בו לומדים כיצד לאסוף נתונים, להציג אותם ולנתח אותם.

בסטטיסטיקה תיאורית אנו פונים לקבוצה מסוימת. באותה קבוצה אנו אוספים נתונים על הישגיות באותה קבוצה.

משתנה – תכונה שיכולה לקבל מספר ערכים: דעה פוליטית, מקום מגורים, גובה של אדם וכדומה.

כל ישות בקבוצה שאנו צופים בה ואוספים לגביה נתונים נקראת תצפית.

הנתונים שנאספים בדרך כלל מרוכזים במסד נתונים. במסד הנתונים כל שורה היא תצפית וכל עמודה מייצגת משתנה.

### דוגמה (פתרון בהקלטה):

למחלקת טראומה הגיעו 5 פצועים מתאונה שקרתה בכביש החוף. אספו נתונים לגבי אותם פצועים, הנתונים מרוכזים בטבלה הבאה:

דופק	מצב הפצוע	גיל	מין
40	אנוש	26.6	גבר
38	קשה	24.5	גבר
50	קשה	32.1	אישה
65	בינוני	34.9	גבר
89	קל	23.1	אישה

ענו על השאלות הבאות:  
 הגדירו את הקבוצה שבדוגמה.  
 כמה תצפיות בקבוצה?  
 כמה משתנים בקבוצה?  
 כמה ערכים יש למשתנה "מין"?

את המשתנים במחקר אנו מסווגים ל-"סולמות מדידה" הדבר חשוב לדרך שבה ננתח את הנתונים בהמשך.

### מיון משתנים לפי סולמות המדידה:

1. סולם שמי (nominal) – משתנה שלערכיו יש משמעות רק מבחינת הזהות ואין עניין של יותר או פחות לערכים שלהם לדוגמה: צבע מועדף. משתנה דיכוטומי (הינו מסולם שמי) אותם משתנים שיש להם רק שני ערכים אפשריים. למשל: אזרחות ישראלית: יש או אין.
2. סולם סדר (ordinal) – כאשר לערכים של המשתנה בנוסף לשם ישנה גם משמעות לסדר מי יותר או מי פחות אבל אין משמעות לגודל. משתנה מסולם סדר יכול לקבל ערכים מילוליים או מספריים. למשל, דרגה בצבא.
3. סולם כמותי (scale) – משתנה שחייב להיות מספרי, לערכים שלו בנוסף לשם ולסדר בניהם יש משמעות לערך המספרי. משתנה כמותי הוא משתנה שניתן בדרך כלל לספור או למדוד על ידי מכשיר מדידה. למשל, מספר המחשבים בדירה, שטח הדירה במ"ר.

את המשתנה הכמותי אנו מסווגים לשני סוגים:

משתנה בדיד:

משתנה שערכיו מתקבלים מתוך סידרה של ערכים אפשריים כמו: מספר המחשבים בדירה.

משתנה רציף:

משתנה שערכיו מתקבלים מתוך אינסוף ערכים בתחום מסוים, הערכים מתקבלים ברצף וללא קפיצות של ערכים. למשל, שטח הדירה במ"ר.

### דוגמה (פתרון בהקלטה):

למחלקת טראומה הגיעו 5 פצועים מתאונה שקרתה בכביש החוף. אספו נתונים לגבי אותם פצועים, הנתונים מרוכזים בטבלה הבאה:

דופק	מצב הפצוע	גיל	מין
40	אנוש	26.6	גבר
38	קשה	24.5	גבר
50	קשה	32.1	אישה
65	בינוני	34.9	גבר
89	קל	23.1	אישה

סווגו כל משתנה במסד הנתונים: שמי, סדר, כמותי רציף, כמותי בדיד.

**שאלות:**

1) לפניכם טבלה המסכמת נתונים לגבי סקר שנעשה היום :

שם משפחה	מצב משפחתי	מידת דתיות	מספר רכבים
כהן	רווק	חילוני	0
חדד	נשוי	חילוני	1
לביא	גרש	מסורתי	1
פיינגולד	אלמן	חילוני	2
אבו שוקרא	נשוי	דתי	1
בן חיים	נשוי	מסורתי	0
רוטשילד	רווק	חילוני	0

א. כמה תצפיות בדוגמה זו?

ב. כמה משתנים בדוגמה זו?

ג. כמה ערכים ישנם ל-"מידת דתיות"?

ד. מהם הערכים האפשריים למשתנה "מצב משפחתי"?

2) סניף מספר 543 של בנק "רווה" בדק ל-80 לקוחות את מספר הפעמים שכל לקוח נכנס לסניף הבנק במשך שבוע. התוצאות שהתקבלו הן : 50 אנשים נכנסו 0 פעמים לסניף, 20 אנשים נכנסו פעם אחת לסניף, 5 אנשים נכנסו פעמיים לסניף, 5 אנשים נכנסו יותר מפעמיים.

א. הגדירו את הקבוצה בדוגמה זו.

ב. כמה תצפיות בדוגמה זו?

ג. הגדירו את המשתנה בדוגמה זו. מהו סולם המדידה שלו?

3) במחקר רפואי התעניינו לדעת כיצד מינון תרופת "קופקס" משפיע על מספר שעות השינה של אדם. במחקר השתתף אדם אחד בשם דני שבכל יום ניתן לו מינון שונה של התרופה. הטבלה שלהלן מתארת בכל יום את מינון התרופה במ"ג שקיבל האדם וכמו כן את מספר שעות השינה שלו באותו הלילה :

מספר שעות שינה	מינון התרופה	מספר היום
6	12	1
7	14	2
7.5	16	3
6.5	18	4
8	20	5

א. כמה תצפיות נאספו במחקר?

ב. סווגו את סולם המדידה של "מינון התרופה" ?

- (4) לפניכם רשימה של משתנים. ציינו באיזה סולם מדידה מדובר (שמי, סדר, כמותי בדיד, כמותי רציף):
- א. גובה אדם בס"מ.
  - ב. מספר ילדים למשפחה.
  - ג. מידת חרדה לפני מבחן.
  - ד. שביעות רצון משירות לקוחות בסקלה מ-1 עד 7 (1 כלל לא מרוצה עד 7 מרוצה מאד).
  - ה. השכלה.
  - ו. מספר אוטובוס.
  - ז. מקום מגורים.
  - ח. מין (1=גבר ו-2=אישה).
  - ט. מידת נעליים.
- (5) לפניכם רשימה של משתנים כמותיים. ציין ליד כל משתנה אם הוא רציף או בדיד:
- א. שכר עובד ב-ש.
  - ב. ציון בחינת בגרות.
  - ג. תוצאה בהטלת קובייה.
  - ד. מהירות ריצה במטר לשנייה בתחרות 100 מטר.
  - ה. שיעור התמיכה בממשלה בעיר.
- (6) גברת לוי החליטה לדגום 25 ימים של נסיעה לעבודה, כאשר בדרך לעבודתה יש 3 צמתים מרומזרים.
- ב-9 ימים הגיעה גברת לוי לעבודה מבלי לעצור באף צומת.
  - ב-9 ימים נוספים היא הצליחה לעבור בשני רמזורים ירוקים.
  - ב-5 ימים נוספים היא הצליח לעבור רק בירוק אחד.
- בשאר הימים, היא לא עברה באף רמזור ירוק. מעוניינים לחקור את מספר הרמזורים האדומים בהם עצרה גברת לוי.
- א. מהו המשתנה הנחקר בדוגמה זו?
  - ב. מהם הערכים האפשריים של משתנה זה?
  - ג. כמה ערכים אפשריים יש למשתנה?
  - ד. מהו סולם המדידה של המשתנה?

### תשובות סופיות:

- (1) א.  $n = 7$ .  
 ג. 3.
- (2) א. לקוחות סניף 543 של בנק "רווה".  
 ג.  $X =$  מספר הפעמים בשבוע שלקוח נכנס לסניף. כמותי בדיד.  
 ב.  $n = 80$ .
- (3) א.  $n = 5$ .  
 ב. כמותי רציף.
- (4) א. כמותי רציף.  
 ג. אין מספיק נתונים.  
 ה. אין מספיק נתונים.  
 ז. שמי.  
 ט. סדר.
- (5) א. רציף.  
 ג. בדיד.  
 ה. רציף.
- (6) א. מספר הרמזורים בהם עוצרת גברת לוי ביום בדרך לעבודה.  
 ב. 0, 1, 2, 3.  
 ד. כמותי בדיד.  
 ג. 4.
- ב. 4.  
 ד. רווק, נשוי, גרוש, אלמן.

# סטטיסטיקה למנהלים

פרק 2 - סטטיסטיקה תיאורית- הצגה של נתונים

תוכן העניינים

1. כללי ..... 6

## סטטיסטיקה תיאורית – הצגה של נתונים:

### רקע:

דרכים להצגת נתונים שנאספו:

### רשימה של תצפיות:

התצפית היא הערך שנצפה עבור ישות מסוימת בקבוצה. רושמים את התצפיות שהתקבלו כרשומה, יעיל שיש מספר מועט של תצפיות. ההצגה הזו רלבנטית לכל סוגי המשתנים. למשל, להלן מספר החדרים בבניין בן 5 דירות: 3, 4, 3, 5, 4.

### טבלת שכיחויות בדידה:

שכיחות יחסית באחוזים	שכיחות – $f(x)$	שם המשתנה- $X$
$\frac{f_1}{N} \cdot 100$	$f_1$	$X_1$
$\frac{f_2}{N} \cdot 100$	$f_2$	$X_2$
$\frac{f_3}{N} \cdot 100$	$f_3$	$X_3$
$\vdots$	$\vdots$	$\vdots$
$\frac{f_x}{N} \cdot 100$	$f_k$	$X_k$
100%	$N = \sum_{i=1}^k f_i$	סה"כ

רושמים את התצפיות בטבלה שבה עמודה אחת מבטאת את ערכי המשתנה והשנייה את השכיחות. יעיל עבור משתנה איכותי וכמותי בדיד וכשיש מספר רב של תצפיות. לא יעיל למשתנה כמותי רציף.

**דוגמה:**

להלן התפלגות הציונים בכיתה מסוימת:

$\frac{f_i}{n}$	$F_i$	מספר התלמידים – השכיחות $f$	הציון $X$
$0.08=2/25$	2	2	5
$0.16=4/25$	6	4	6
$0.32=8/25$	14	8	7
$0.2=5/25$	19	5	8
$0.16=4/25$	23	4	9
$0.08=2/25$	25	2	10

שכיחות מצטברת – צבירה של השכיחויות.

השכיחויות  $F_i$  – השכיחות המצטברת נותנת כמה תצפיות קטנות או שוות לערך.

שכיחות יחסית (פרופורציה) – השכיחות מחולקת לכמות התצפיות הכללי:

$$\frac{f_i}{n} - \text{איזה חלק מהתצפיות בקבוצה שוות לערך.}$$

**טבלת שכיחויות במחלקות:**

משתמשים שהמשתנה כמותי רציף או כאשר יש מספר ערכים רב במשתנה הבדיד וטבלת שכיחויות תהיה ארוכה מידי.

**דוגמה:**

נתנו לקבוצת ילדים לבצע משימה, בדקו את התפלגות זמן הביצוע, בדקות. להלן ההתפלגות שהתקבלה:

מספר הילדים	זמן בדקות
20	0.5-3.5
18	3.5-9.5
14	9.5-19.5
8	19.5-29.5

### דיאגרמת עוגה:

זהו התיאור הגרפי של משתנה איכותי. בדיאגרמת עוגה כל ערך במשתנה מקבל "נתח", שהוא פרופורציונלי לשכיחות היחסית של ערך המשתנה בנתונים.

### התפלגות המצב המשפחתי



### דיאגרמת מקלות:

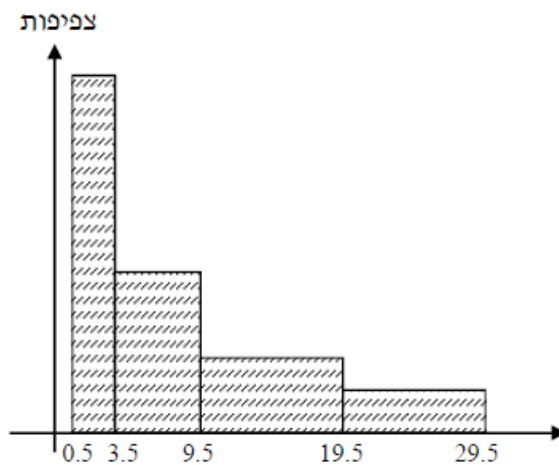
הציר האופקי הוא הציר של המשתנה והציר האנכי של השכיחות, כך שהגובה של המקל מעיד על השכיחות. רלבנטי למשתנה כמותי בדיד. לא נהוג להשתמש בתיאור למשתנה איכותי וכמו כן לא למשתנה כמותי רציף, וכן בסולמות מדידה עבור משתנה מסולם סדר.



### היסטוגרמה:

היסטוגרמה היא הדרך הגרפית כדי לתאר טבלת שכיחויות במחלקות, והיא רלוונטית למשתנה כמותי רציף. בהיסטוגרמה הציר האופקי הוא הציר של המשתנה והציר האנכי הוא הציר של הצפיפות. הצפיפות מחושבת בכל מחלקה על ידי חלוקת השכיחות ברוחב של כל המחלקה, והיא נותנת את מספר התצפיות הממוצע בכל מחלקה ליחידה. אם המחלקות הן שוות ברוחב, ניתן לשרטט את ההיסטוגרמה לפי השכיחות ואין צורך בצפיפות.

צפיפות	מצטברת	שכיחות	אמצע	רוחב	X
6.6667	20	20	2	3	0.5 - 3.5
3	38	18	6.5	6	3.5 - 9.5
1.4	52	14	14.5	10	9.5 - 19.5
0.8	60	8	24.5	10	19.5 - 29.5



### פוליגון – מצולעון:

אם נחבר את אמצע קצה כל מלבן בקווים ישרים. נותן מראה חזותי לצורה של התפלגות המשתנה.

### צורות התפלגות נפוצות:

#### התפלגות סימטרית פעמונית

רוב התצפיות במרכז, וככל שנתרחק מהמרכז יהיו פחות תצפיות באופן סימטרי. לדוגמה, ציוני IQ.

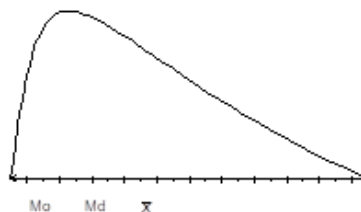


ישנן התפלגויות סימטריות שאינן פעמוניות, כגון:

#### התפלגות אסימטרית ימנית (חיובית)

רוב התצפיות מקבלות ערכים נמוכים ויש מיעוט הולך וקטן של תצפיות שמקבלות ערכים גבוהים קיצוניים. לדוגמה, שכר במשק.


#### התפלגות א-סימטרית ימנית או חיובית



#### התפלגות אסימטרית שמאלית (שלילית)

רוב התצפיות מקבלות ערכים גבוהים ויש מיעוט הולך וקטן של תצפיות שמקבלות ערכים נמוכים קיצוניים. לדוגמה, אורך חיים.

#### התפלגות א-סימטרית שמאלית או שלילית



## שאלות:

- 1) בסקר צפייה בטלוויזיה התקבלו התוצאות הבאות: 25 צפו בערוץ הראשון, 25 צפו בערוץ 10, 75 צפו בערוץ השני, 50 צפו באחד מערוצי הכבלים ו-25 לא צפו בטלוויזיה בזמן הסקר.
- א. רשמו את טבלת השכיחות ואת השכיחות היחסית.
- ב. תארו את הנתונים באופן גרפי.

- 2) להלן נתונים על התפלגות המקצוע המועדף של תלמידי שכבה ו' בבית הספר "מעוף":

המקצוע	מספר התלמידים
מתמטיקה	44
תנ"ך	20
אנגלית	12
היסטוריה	26

- א. מהו המשתנה הנחקר?
- ב. מהי פרופורציית התלמידים שמעדיפים תנ"ך?

- 3) להלן התפלגות ההשכלה במקום עבודה מסוים:

השכלה	מספר העובדים
נמוכה	60
תיכונית	120
אקדמאית	20

- א. מהו המשתנה הנחקר?  
מאיזה סולם הוא?
- ב. תארו את הנתונים באופן גרפי.

- 4) להלן רשימת הציונים של 20 תלמידים שנבחנו במבחן הבנת הנקרא:
- 6, 5, 8, 7, 6, 7, 6, 8, 7, 8, 5, 4, 6, 10, 9, 8, 6, 7.
- א. מהו המשתנה? האם הוא בדיד או רציף?
- ב. תארו את הרשימה בטבלת שכיחויות.
- ג. הוסיפו שכיחויות יחסיות לטבלה.
- ד. תארו את הנתונים באופן גרפי.

### תשובות סופיות:

ב. עיין גרף מלא בסרטון הוידאו.

1) א. להלן טבלה:

%	$\frac{f(x)}{n}$	$f(x)$	$x$
12.5%	$\frac{25}{200}$	25	ערוץ 1
12.5%	$\frac{25}{200}$	25	ערוץ 10
37.5%	$\frac{75}{200}$	75	ערוץ 2
25%	$\frac{50}{200}$	50	כבלים
12.5%	$\frac{25}{200}$	25	לא צפו
100%	1	200	סה"כ

ב. 19.6%.

2) א. מקצוע מועדף.

ב. עיין גרף מלא בסרטון הוידאו.

3) א. משתנה נחקר: השכלה, סוג: סדר.

ב+ג. להלן טבלה:

%	$\frac{f(x)}{n}$	$f(x)$	$x$
5%	$\frac{1}{20}$	1	4
10%	$\frac{2}{20}$	2	5
30%	$\frac{6}{20}$	6	6
20%	$\frac{4}{20}$	4	7
20%	$\frac{4}{20}$	4	8
10%	$\frac{2}{20}$	2	9
5%	$\frac{1}{20}$	1	10
100%	20	20	סה"כ

4) א. המשתנה: ציון, משתנה בדיד.  
 ד. עיין גרף מלא בסרטון הוידאו.

# סטטיסטיקה למנהלים

פרק 3 - סטטיסטיקה תיאורית- סכימה

תוכן העניינים

1. כללי ..... 14

## סטטיסטיקה תיאורית – סכימה:

רקע:

בסטטיסטיקה ישנה צורת רישום מקובלת לסכום של תצפיות:  $\sum_{i=1}^n X_i$ .

נסביר את צורת הרישום על ידי הדוגמה הבאה:

$i$	$X_i$
1	5
2	0
3	1
4	3
5	2

(הסבר מלא מופיע בסרטונים באתר).

## שאלות:

- 1) בבניין 5 דירות. לכל דירה רשמו את מספר החדרים שיש בדירה ( $X$ ), ומספר הנפשות החיות בדירה ( $Y$ ) חשבו:

$Y$	$X$	מספר דירה
1	2	1
1	3	2
2	2	3
3	4	4
2	3	5

א.  $\sum_{i=1}^3 X_i$

ב.  $\sum_{i=1}^5 Y_i$

ג.  $\sum_{i=1}^4 X_i$

ד.  $\left(\sum_{i=1}^4 X_i\right)^2$

ה.  $\sum X_i$

ו.  $\sum X_i Y_i$

ז.  $\sum(X_i) \sum(Y_i)$

- (2) נתון לוח ערכי המשתנים  $X_i$  ו- $Y_i$ , כאשר:  $i = 1, 2, \dots, 6$ , ונתונים הקבועים:  
 $a = 2$ ,  $b = 5$ . חשבו את הנוסחאות הבאות:

$i$	1	2	3	4	5	6
$X_i$	3	2	4	-2	1	4
$Y_i$	2	0	0	1	-5	2

$$\text{א. } \sum_{i=1}^4 y_i$$

$$\text{ב. } \sum_{i=1}^6 a$$

$$\text{ג. } \sum_{i=1}^6 x_i y_i$$

$$\text{ד. } \sum_{i=1}^6 (x_i + y_i)$$

$$\text{ה. } \sum_{i=1}^6 x_i + a$$

- (3) קבעו לכל זהות האם היא נכונה:

$$\text{א. } \sum_{i=1}^n bX_i = b \cdot \sum_{i=1}^n X_i$$

$$\text{ב. } \sum_{i=1}^n a = a \cdot n$$

$$\text{ג. } \left( \sum_{i=1}^n X_i \right)^2 = \sum_{i=1}^n X_i^2$$

**תשובות סופיות:**

- |         |              |           |              |
|---------|--------------|-----------|--------------|
| ד. 121. | ג. 11.       | ב. 9.     | א. 7. (1     |
|         | ז. 126.      | ו. 27.    | ה. 14.       |
| ד. 12.  | ג. 7.        | ב. 12.    | א. 3. (2     |
|         |              |           | ה. 14.       |
|         | ג. לא נכונה. | ב. נכונה. | א. נכונה. (3 |

# סטטיסטיקה למנהלים

פרק 4 - סטטיסטיקה תיאורית- מדדי מרכז

תוכן העניינים

1. כללי ..... (ללא ספר)

# סטטיסטיקה למנהלים

פרק 5 - סטטיסטיקה תיאורית- מדדי פיזור

תוכן העניינים

1. כללי ..... (ללא ספר)

# סטטיסטיקה למנהלים

פרק 6 - סטטיסטיקה תיאורית- מדדי מיקום יחסי-ציון תקן

תוכן העניינים

1. כללי ..... 18

## סטטיסטיקה תיאורית – מדדי מיקום יחסי – ציון תקן:

### רקע:

המטרה למדוד איך תצפית ממוקמת ביחס לשאר התצפיות בהתפלגות.

### ציון תקן:

הנוסחה לציון תקן של תצפית היא:  $Z = \frac{X - \bar{X}}{S}$ .

- ציון התקן נותן כמה סטיות תקן סוטה התצפית מהממוצע. כלומר, ציון התקן מעיד על כמה סטיות תקן התצפית מעל או מתחת לממוצע:
- ציון תקן חיובי אומר שהתצפית מעל הממוצע.
  - ציון תקן שלילי אומר שהתצפית מתחת לממוצע.
  - ציון תקן אפס אומר שהתצפית בדיוק בממוצע.

### דוגמה (פתרון בהקלטה):

במקום עבודה מסוים, ממוצע המשכורות הוא 8 אלף ₪, עם סטית תקן של אלפיים ₪. באותו מקום עבודה ההשכלה הממוצעת של העובדים הנה 14 שנים, עם סטית תקן של 1.5 שנים. ערן מרוויח במקום עבודה זה 11 אלף ₪ והשכלתו 16 שנים. מה ערן יותר, באופן יחסי, משכיל או משתכר?

## שאלות:

- 1) תלמידי כיתה ח' ניגשו למבחן בלשון ולמבחן במתמטיקה. להלן התוצאות שהתקבלו:

המקצוע	ממוצע	סטיית תקן
לשון	74	12
מתמטיקה	80	16

עודד קיבל: 68 בלשון ו-70 במתמטיקה.

- א. באיזה מקצוע עודד טוב יותר באופן יחסי לשכבה שלו?  
 ב. איזה ציון עודד צריך לקבל במתמטיקה כדי שיהיה שקול לציונו בלשון?

- 2) במפעל לייצור מצברים לרכב בדקו במשך 40 ימים את התפוקה היומית (מספר מצברים במאות) ואת מספר הפועלים שעבדו באותו היום. להלן טבלה המסכמת את המידע שנאסף על שני המשתנים:

מספר פועלים	תפוקה	ממוצע
15	48	
2	10	סטיית תקן

- באחד הימים מתוך כלל הימים שנבדקו התפוקה הייתה 50 מאות מצברים ובאותו היום עבדו 13 פועלים.  
 מה יותר חריג באותו היום, יחסית לשאר הימים שנבדקו: נתוני התפוקה או כמות הפועלים?  
 א. התפוקה.  
 ב. כמות הפועלים.  
 ג. חריגים באותה מידה.  
 ד. חסרים נתונים כדי לדעת זאת.

- 3) הגובה הממוצע של המתגייסים לצבא הוא 175 סנטימטר עם סטיית תקן של 10 סנטימטר. המשקל הממוצע הוא 66 ק"ג עם סטיית תקן של 8 ק"ג. ערך התגייס כשגובהו 180 ס"מ ומשקלו 59 ק"ג.  
 א. במה ערך חריג יותר ביחס לשאר המתגייסים, גובהו או משקלו?  
 ב. כמה ערך אמור לשקול כדי שמשקלו יהיה שקול לגובהו?

## תשובות סופיות:

- 1) א. לשון. ב. 72.  
 2) ב'.  
 3) א. משקל. ב. 70.

# סטטיסטיקה למנהלים

פרק 7 - סטטיסטיקה תיאורית-אחוזונים בטבלה בדידה

תוכן העניינים

1. כללי ..... 20

## סטטיסטיקה תיאורית – מדדי מיקום יחסי – אחוזונים בטבלה בדידה:

### רקע:

האחוזון (המאון) ה- $p$  הוא הערך בנתונים המחלק את הנתונים בצורה כזאת, שעד אליו (כולל) יש  $p\%$  מהנתונים. מסמנים את האחוזון ה- $p$  ב- $X_p$ .

### חישוב האחוזון מתוך נתונים בטבלת שכיחויות בדידה:

האחוזון הוא הערך שבו בפעם הראשונה השכיחות היחסית המצטברת (באחוזים) גדולה או שווה ל- $p\%$ .

### דוגמה (פתרון בהקלטה):

בסניף בנק 250 לקוחות. ספרו לכל לקוח את מספר תוכניות החיסכון שלו:

שכיחות יחסית מצטברת	שכיחות מצטברת	$F(x)$	# תוכניות החיסכון
		100	0
		75	1
		25	2
		25	3
		25	4

א. מצאו את האחוזון ה-25.

ב. מצאו את הערך ש-20% מהמקרים מעליו.

## שאלות:

(1) להלן התפלגות של משתנה כלשהו:

$F(x)$	$X$
10	0
40	1
30	2
15	3
5	4

מצאו להתפלגות את:

- א. האחוזון ה-60.
- ב. המאון ה-40.
- ג. העשירון העליון.
- ד. הטווח בין הרבעונים.

(2) להלן התפלגות מספר המכוניות למשפחה בישוב "הגורן":

מספר מכוניות למשפחה	1	2	3	4	5
שכיחות	65	150	220	140	55

חשבו את:

- א. העשירון התחתון.
- ב. האחוזון ה-30.
- ג. הערך ש-20% מהתצפית גדולות ממנו.
- ד. רבעון עליון.

## תשובות סופיות:

- (1) א. 2      ב. 1      ג. 3      ד. 1
- (2) א. 1      ב. 2      ג. 4      ד. 4

# סטטיסטיקה למנהלים

פרק 8 - המשתנה המקרי הבדיד - טרנספורמציה לינארית

תוכן העניינים

1. כללי ..... 22

## המשתנה המקרי הבדיד – טרנספורמציה לינארית:

### רקע:

טרנספורמציה לינארית היא מצב שבו מבצעים הכפלה של קבוע ו/או הוספה של קבוע על המשתנה המקורי (כולל גם חלוקה של קבוע והחסרה של קבוע).

בניסוח מתמטי נאמר כי אם משתנה אקראי  $Y$  מיוצג ע"י משתנה אקראי  $X$  כאשר  $a, b$  הם קבועים כלשהם:  $Y = aX + b$ , אזי מתקיימים:

$$E(Y) = aE(X) + b \quad (1)$$

$$V(Y) = a^2 \cdot V(X) \quad (2)$$

$$\sigma_Y = |a| \sigma_X \quad (3)$$

### שלבי העבודה:

- (1) נזהה שמדובר בטרנספורמציה לינארית (שינוי קבוע לכל התצפיות).
- (2) נרשום את כלל הטרנספורמציה לפי נתוני השאלה.
- (3) נפשט את הכלל ונזהה את ערכי  $a$  ו- $b$ .
- (4) נציב בנוסחאות שלעיל בהתאם למדדים שנשאלים.

דוגמה – הרולטה:

בהמשך לנתוני שאלת הרולטה נתון שעלות השתתפות במשחק 15 ₪. מהי התוחלת והשונויות של הרווח במשחק?

פתרון (בהקלטה):

$$\text{חישבנו קודם ש: } E(X) = 22.5 = \mu, \quad V(X) = 68.75 = \sigma^2$$

**שאלות:**

(1) סטודנט ניגש ל-5 קורסים הסמסטר. נניח שכל קורס שסטודנט מסיים מזכה אותו ב-4 נקודות אקדמאיות. חשבו את התוחלת והשונות של סך הנקודות שיצבור הסטודנט כאשר נתון שתוחלת מספר הקורסים שיסיים היא 3.5 עם שונות 2.

(2) תוחלת סכום הזכייה במשחק מזל הינה 10 עם שונות 3. הוחלט להכפיל את סכום הזכייה במשחק. עלות השתתפות במשחק הינה 12. מה התוחלת ומהי השונות של הרווח במשחק?

(3) תוחלת של משתנה מקרי הינה 10 וסטית התקן 5. הוחלט להוסיף 2 למשתנה ולאחר מכן להעלות אותו ב-10%. מהי התוחלת ומהי סטיית התקן לאחר השינוי?

(4)  $X$  הינו משתנה מקרי. כמו כן נתון ש- $E(X) = 4$  ו- $V(X) = 3$ .  
 $Y$  הינו משתנה מקרי חדש, עבורו:  $Y = 7 - X$ . חשבו את:  $E(Y)$  ו- $V(Y)$ .

(5) אדם החליט לבטח את רכבו; שווי הרכב 100,000 ₪. להלן התביעות האפשריות והסתברותן: בהסתברות של 0.001 תהיה תביעה טוטאלוסט (כל שווי הרכב). בהסתברות של 0.02 תהיה תביעה בשווי מחצית משווי הרכב. בהסתברות של 5% תהיה תביעה בשווי רבע משווי הרכב. אחרת אין תביעה בכלל. החברה מאפשרת תביעה אחת בשנה. נסמן ב- $X$  את גובה התביעה השנתית, באלפי ₪.  
א. בנו את פונקציית ההסתברות של  $X$ .  
ב. חשבו את התוחלת והשונות של גובה התביעה.  
ג. פרמיית הביטוח היא 4,000 ₪.  
מהי התוחלת ומהי השונות של רווח חברת הביטוח לביטוח הרכב הני"ל?

(6) יהי  $X$  מספר התשובות הנכונות במבחן בו 10 שאלות. פונקציית ההסתברות של  $X$  נתונה בטבלה הבאה:

10	9	8	7	6	5	$X$
		0.3	0.2	0.2	0.1	$P(X)$

כמו כן, נתון שצפי מספר התשובות הנכונות בבחינה הוא 7.35.

- השלימו את פונקציית ההסתברות.
- חשבו את השונות מספר התשובות הנכונות בבחינה.
- הציון בבחינה מחושב באופן הבא:  
כל שאלה נכונה מזכה ב-10 נקודות. לכל שאלה שגויה, מופחתת נקודה.  
מהי התוחלת ומה השונות של הציון בבחינה?

(7) להלן פונקציית הסתברות של משתנה מקרי כלשהו:  $P(X = k) = \frac{k}{A}$ ,  $k = 1, 2, \dots, 4$ .

- א. מצא את ערכו של  $A$ .  
 ב. חשב את התוחלת והשונות של המשתנה הנחקר.  
 ג. חשב את:  $E(X^3)$ .  
 ד. חשב את התוחלת והשונות של המשתנה הבא:  $\frac{X}{2} - 4$ .

### תשובות סופיות:

- (1) תוחלת: 14, שונות: 32.  
 (2) תוחלת: 8, שונות: 12.  
 (3) תוחלת: 13.2, סטיית תקן: 5.5.  
 (4) תוחלת: 3, שונות: 3.  
 (5) א. להלן טבלה: ב. תוחלת: 2350, שונות:  $85,727.5^2$ .

0	25	50	100	$X$
0.929	0.05	0.02	0.001	$P(X)$

- ג. תוחלת: 1650, שונות:  $85,727.5^2$ .  
 (6) ב.  $V(X) = 1.8275$ .  
 (7) א.  $A = 10$ . ב.  $E(X) = 3$ ,  $V(X) = 1$ . ג.  $E(X^3) = 35.4$ ,  $V(X^3) = 616.84$ . ד.  $E(Y) = -2.5$ ,  $V(Y) = 0.25$ .

# סטטיסטיקה למנהלים

פרק 9 - סטטיסטיקה תיאורית- ניתוח פלטים

תוכן העניינים

1. כללי ..... 25

## סטטיסטיקה תיאורית – ניתוח פלטים:

### שאלות:

1) להלן פלט על התפלגות הגילאים באוכלוסייה מסוימת:

		Statistic
Age of Respondent	Mean	45.63
	Median	41.00
	Variance	317.140
	Std. Deviation	a
	Minimum	18
	Maximum	b
	Range	71
	Interquartile Range	28

- א. מצאו את הערכים בטבלה המסומנים ב- $a$  ו- $b$ .  
 ב. נתון שההתפלגות היא אסימטרית, האם היא נוטה ימינה או שמאלה?

2) להלן התפלגות ההשכלה של העובדים בחברת "מתאר":

		Statistic
years of education	Mean	?
	Median	12.0000
	Variance	?
	Std. Deviation	2.54786
	Minimum	?
	Maximum	?
	Range	?
	Interquartile Range	?

מלאו את הערכים המסומנים בסימני שאלה.

**תשובות סופיות:**

- (1) א.  $b = 89$ ,  $a = 17.81$ . ב. אסימטרית ימנית.
- (2) ממוצע: 11.909, שונות: 6.492, טווח: 10, טב"ר: 3.

# סטטיסטיקה למנהלים

פרק 10 - סטטיסטיקה תיאורית שאלות אמריקאיות

תוכן העניינים

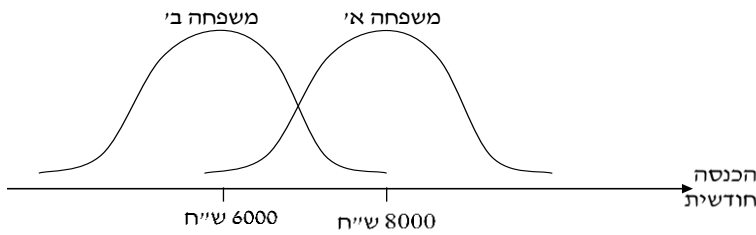
1. כללי ..... 27

## סטטיסטיקה תיאורית – שאלות אמריקאיות:

### שאלות:

#### שאלות 1-3 מתייחסות לקטע הבא:

להלן שתי עקומות המתארות את התפלגות ההכנסות החודשיות של שתי משפחות שנבחרו באקראי:



- (1) לאיזו משפחה הכנסה שכיחה גבוהה יותר?
- משפחה א׳.
  - משפחה ב׳.
  - לשתיהן אותה הכנסה שכיחה.
  - לא ניתן לדעת – אין מספיק נתונים.
- (2) באיזו משפחה ההכנסה החציונית שווה להכנסה הממוצעת?
- משפחה א׳.
  - משפחה ב׳.
  - בשתיהן ההכנסה החציונית שווה להכנסה הממוצעת.
  - לא ניתן לדעת – אין מספיק נתונים.
- (3) באיזו משפחה סטית התקן של ההכנסה החודשית גבוהה יותר?
- משפחה א׳.
  - משפחה ב׳.
  - לשתיהן אותה סטית תקן.
  - לא ניתן לדעת – אין מספיק נתונים.

**הנתונים הבאים מתייחסים לשאלות 4-6:**

להלן נתונים חלקיים של טבלת שכיחויות:  
 כמו כן, נתון כי הממוצע הוא 1.66.

$F(x)$	$x$
?	0
10	1
6	2
15	3
?	4
50	סה"כ

(4) השכיח של הנתונים הוא:

- א. 0.
- ב. 15.
- ג. ישנם שני שכיחים: 0 ו-3.
- ד. על סמך הנתונים החלקיים אי אפשר לקבוע מה יהיה ערכו של השכיח.

(5) חציון הנתונים הוא:

- א. 2.
- ב. 1.5.
- ג. 25.5.
- ד. על סמך הנתונים החלקיים אי אפשר לקבוע מה יהיה ערכו של החציון.

(6) הטווח של הנתונים:

- א. 11.
- ב. 3.
- ג. 4.
- ד. על סמך הנתונים החלקיים אי אפשר לקבוע מה יהיה ערכו של החציון.

(7) בהתפלגות אסימטרית ימנית של משתנה כמותי רציף, הערך המתאים למאון ה-30, ציון התקן שלו הוא בהכרח:

- א. שלילי.
- ב. חיובי.
- ג. אפס.
- ד. לא ניתן לדעת ללא הנתונים.

- 8) סדרת נתונים סטטיסטיים מונה 10 תצפיות. נתון כי סדרת הנתונים סימטרית סביב הממוצע. ממוצע הסדרה-40 ושונות הסדרה-100. בשלב מאוחר יותר נוספו שתי תצפיות נוספות לסדרה : 50 ו-30. השונות של 12 התצפיות :
- א. תקטן.
  - ב. תגדל.
  - ג. לא תשתנה.
  - ד. לא ניתן לחשב את השונות ללא ידיעת התצפיות.

### הנתונים הבאים מתייחסים לשאלות 9-10:

בחברת "טיק" המשכורת הממוצעת היא 4,600 ₪ וסטיית התקן של משכורת זו הינה 200 ₪. לאחר מו"מ עם ועד עובדי ההנהלה סוכם כי המשכורת תוכפל פי 1.5.

- 9) מהי המשכורת הממוצעת החדשה (ב-₪)?

- א. 2,300.
- ב. 6,900.
- ג. 4,650.
- ד. 4,600.
- ה. חסרים נתונים כדי לדעת.

- 10) מהי סטיית התקן של המשכורת לאחר יישום המו"מ לגבי השכר (ב-₪)?

- א. 200.
- ב. 300.
- ג. 675.
- ד. לא ניתן לדעת.

- 11) הוספת גודל קבוע לכל תצפיות סדרת נתונים :

- א. תגדיל את סטיית התקן.
- ב. תקטין את סטיית התקן.
- ג. לא תשנה את סטיית התקן.
- ד. לא ניתן לדעת.

**הנתונים הבאים מתייחסים לשאלות 12-13:**

להלן נתונים על ציוני תלמידים שנבחנו במועדים שונים בסטטיסטיקה:

שם התלמיד	ציון	ממוצע הציונים במועד בו נבחן	סטיית התקן של הציונים במועד בו נבחן
צבי	50	50	12
סטף	82	80	5
שרית	65	60	15
לובה	60	63	1.5
מיטב	70	70	10

**12** התלמיד הטוב ביותר ביחס לנבחנים באותו מועד בו נבחן הוא:

- א. מיטב.
- ב. צבי.
- ג. לובה.
- ד. שרית.
- ה. סטף.

**13** פנינה נבחנה עם סטף וציון התקן שלה שווה לציון התקן של שרית לכן ציונה הוא:

- א. 80.55.
- ב. 65.
- ג. 80.
- ד. 81.66.

**הנתונים הבאים מתייחסים לשאלות 14-17:**

בבדיקת פתע של משרד הבריאות במפעל שוקולד, נמצא ש:

שוקולד פגום	0	1	2	3	4	5	6	7
מס' קופסאות	35	63	48	12	13	11	10	8

**14** מהו החציון של מספר הפגומים בקופסא:

- א. 1.
- ב. 2.
- ג. 4.
- ד. לא ניתן לדעת.

**15** מהו הרבעון התחתון של מספר הפגומים בקופסא?

- א. 1.
- ב. 2.
- ג. 3.
- ד. 4.
- ה. לא ניתן לדעת.

16) מספר הפגומים בקופסא הוא משתנה :

- א. סדר.
- ב. שמי.
- ג. כמותי בדיד.
- ד. כמותי רציף.

17) השכיח של מספר הפגומים בקופסא :

- א. 63.
- ב. 1.
- ג. 200.
- ד. לא ניתן לדעת.

18) ביחס לציר המספרים, רוב הערכים בהתפלגות א-סימטרית ימנית נמצאים :

- א. בערכים הגבוהים.
- ב. בחלוקה זהה בין הערכים הגבוהים והנמוכים.
- ג. בערכים הנמוכים.
- ד. לא ניתן לדעת.
- ה. אף לא תשובה מהני"ל נכונה.

19) בוצע מחקר על מספר העובדים בחברות מזון לעומת חברות תקשורת. החציון והממוצע בשתיהן שווה 8.

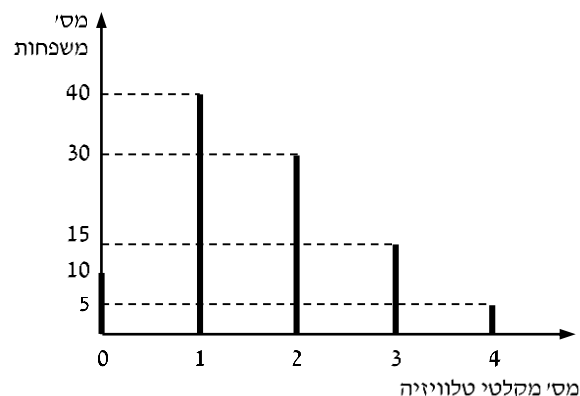
איזה מהטענות הבאות היא הנכונה והמלאה ביותר :

- א. השכיחות ב-2 החברות זהה אך שונה מ-8.
- ב. השכיח ב-2 החברות זהה אך לא ניתן לדעת מהו.
- ג. השכיח בשתי חברות הינו בהכרח 8.
- ד. שכיח בחברה אחת שונה מ-8 ובשנייה הוא 8.
- ה. אף תשובה אינה נכונה.

**הנתונים הבאים מתייחסים לשאלות 20 עד 24 :**

נערך סקר על מספר מקלטי הטלוויזיה הנמצאים בבית.

תוצאות הסקר נתונות בדיאגרמת מקלות הבאה :



**(20)** המשתנה הנחקר כאן הוא :

- א. משתנה שמי.
- ב. משתנה מסולם סדר.
- ג. משתנה כמותי בדיד.
- ד. משתנה כמותי רציף.

**(21)** הטווח של ההתפלגות הוא :

- א. 35.
- ב. 4.
- ג. 3.
- ד. 2.

**(22)** ממוצע מספר מקלטי הטלוויזיה למשפחה הוא :

- א. 1.65.
- ב. 1.5.
- ג. 1.
- ד. 2.

**(23)** השכיח של התפלגות זו היא :

- א. 40.
- ב. 1.5.
- ג. 1.
- ד. 2.

**(24)** מסתבר שיש בין 2 ל-5 משפחות נוספות שאין להם מקלטי טלוויזיה ויש לצרף את המשפחות הללו להתפלגות. כיצד הנתון זה ישפיע על סטיית התקן?

- א. יקטין אותו.
- ב. יגדיל אותו.
- ג. לא ישנה אותו.
- ד. אין לדעת.

**תשובות סופיות:**

(5 ב'	(4 ג'	(3 ג'	(2 ג'	(1 א'
(10 ב'	(9 ב'	(8 ג'	(7 א'	(6 ג'
(15 א'	(14 ב'	(13 ד'	(12 ה'	(11 ג'
(20 ג'	(19 ה'	(18 ג'	(17 ב'	(16 ג'
	(24 ב'	(23 ג'	(22 א'	(21 ב'

# סטטיסטיקה למנהלים

פרק 11 - קשר בין משתנים

תוכן העניינים

1. כללי ..... (ללא ספר)

# סטטיסטיקה למנהלים

פרק 12 - התפלגות נורמלית

תוכן העניינים

1. כללי ..... (ללא ספר)

# סטטיסטיקה למנהלים

פרק 13 - הסקה סטטיסטית - הקדמה

תוכן העניינים

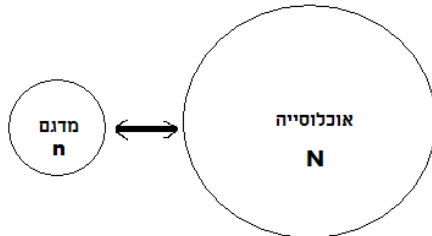
1. כללי ..... 34

## הסקה סטטיסטית – הקדמה:

### רקע:

#### אוכלוסייה:

קבוצה שאליה מפנים שאלה מחקרית. למשל, חברת תרופות שמעוניינת לפתח תרופה למחלת הסוכרת מתעניינת באוכלוסיית חולי הסוכרת בעולם.



#### מדגם:

חלק מתוך האוכלוסייה. למשל, אם נדגום באקראי 10 אנשים מתוך חולי הסוכרת אז זהו מדגם מתוך אוכלוסיית חולי הסוכרת.

במקרים רבים אין אפשרות לחקור את כל האוכלוסייה כיוון שאין גישה לכולה, היא גדולה מידי, או מוגבלים בזמן ובאמצעים טכניים ולכן מבצעים מדגם במטרה לבצע הסקה סטטיסטית מהמדגם לאוכלוסייה. הדגימה בקורס תהיה דגימה מקרית - הכוונה לדגימה שבה לכל תצפית באוכלוסייה יש את אותו סיכוי להיכלל במדגם.

#### סטטיסטי:

גודל המחושב על המדגם.

#### פרמטר:

גודל המתאר את האוכלוסייה.

### הסימונים לפרמטר וסטטיסטי הם שונים:

פרמטר (אוכלוסייה)	סטטיסטי (מדגם)	ממוצע
$\mu$	$\bar{X}$	
$P$	$\hat{p}$	פרופורציה (שכיחות יחסית)

פרמטר הוא גודל קבוע גם אם אנו לא יודעים אותו סטטיסטי הוא משתנה ממדגם למדגם ולכן יש לו התפלגות הנקראת התפלגות הדגימה.

### דוגמה (פתרון בהקלטה):

25% מאזרחי המדינה תומכים בהצעת החוק של חבר כנסת מסוים. הוחלט לדגום 200 אזרחים ומתוכם לבדוק מהו אחוז התומכים בהצעת החוק.

א. מי האוכלוסייה?

ב. מה המשתנה?

ג. מה הפרמטרים?

ד. מהו גודל המדגם?

ה. מהו הסטטיסטי שמתכננים להוציא מהמדגם?

ו. האם הפרמטר או הסטטיסטי הוא משתנה מקרי?

**שאלות:**

- (1) מתוך כלל הסטודנטים במכללה שסיימו סטטיסטיקה א נדגמו שני סטודנטים. נתון שממוצע הציונים של כלל הסטודנטים היה 78 עם סטיית תקן של 15.
- מי האוכלוסייה?
  - מה המשתנה?
  - מהם הפרמטרים?
  - מהו גודל המדגם?
- (2) להלן התפלגות מספר מקלטי הטלוויזיה למשפחה בישוב "העוגן". נגדיר את  $X$  להיות מספר המקלטים של משפחה אקראית. מתכננים לדגום מאוכלוסייה זו 4 משפחות ולהתבונן בממוצע מספר מקלטי הטלוויזיה במדגם.
- מיהי האוכלוסייה ומהו המשתנה הנחקר?
  - מהו הסטטיסטי שיילקח מהמדגם ומה סימונו?

מספר משפחות	מספר מקלטים
50	0
250	1
350	2
300	3
50	4
סך הכול $N = 1000$	

- (3) נתון כי 20% מהשכירים במדינה הם אקדמאיים. נבחרו באקראי 10 שכירים באותה אוכלוסייה ומתכננים לפרסם את מספר האקדמאיים שנדגמו.
- מיהי האוכלוסייה?
  - מה המשתנה באוכלוסייה?
  - מהם הפרמטרים?
  - מהו הסטטיסטי?

**תשובות סופיות:**

- (1) א. כלל הסטודנטים במכללה שסיימו סטטיסטיקה א. ב. ציון. ג. ממוצע: 78, סטיית תקן: 15. ד. 2.
- (2) א. האוכלוסייה: 1000 משפחות בישוב העוגן, המשתנה הנחקר: מס' מקלטים. ב.  $\bar{X}$  = ממוצע מדגם.
- (3) א. השכירים במדינה. ב. השכלה: אקדמאי, לא אקדמאי. ג. שיעור ההצלחות באוכלוסייה: 0.2. ג. מס' האקדמאים במדגם.

# סטטיסטיקה למנהלים

פרק 14 - התפלגות הדגימה ומשפט הגבול המרכזי מנהל

תוכן העניינים

1. כללי ..... (ללא ספר)

# סטטיסטיקה למנהלים

פרק 15 - מבוא לבדיקת השערות על פרמטרים

תוכן העניינים

37	.....	1. הקדמה
41	.....	2. סוגי טעויות

## הקדמה:

### רקע:

תהליך של בדיקת השערות הוא תהליך מאד נפוץ בעולם הסטטיסטיקה. בבדיקת השערות על פרמטרים נעבוד לפי השלבים הבאים:

**שלב א:** נוהה את הפרמטר הנחקר.

**שלב ב:** נרשום את השערות המחקר.

השערת האפס המסומנות ב- $H_0$ .

בדרך כלל השערת האפס מסמלת את אשר היה מקובל עד עכשיו, את השגרה, הנורמה.

השערה אלטרנטיבית (השערת המחקר) המסומנת ב- $H_1$ .

ההשערה האלטרנטיבית מסמלת את החדשנות בעצם ההשערה האלטרנטיבית מדברת על הסיבה שהמחקר נעשה היא שאלת המחקר.

**שלב ג:** נבדוק האם התנאים לביצוע התהליך מתקיימים ונניח הנחות במידת הצורך.

**שלב ד:** נרשום את כלל ההכרעה. בתהליך של בדיקת השערות יוצרים כלל שנקרא כלל הכרעה. הכלל יוצר אזורי שנקראים:

1. **אזור דחייה:**

דחייה של השערת האפס כלומר קבלה של האלטרנטיבה.

2. **אזור קבלה:**

קבלה של השערת האפס ודחייה של האלטרנטיבה. כלל ההכרעה מתבסס על איזשהו סטטיסטי. אזור הדחייה מוכתב על ידי סיכון שלוקח החוקר מראש

שנקרא רמת מובהקות ומסומן ב- $\alpha$ .

**שלב ה:** בתהליך יש ללכת לתוצאות המדגם ולחשב את הסטטיסטי המתאים ולבדוק האם התוצאות נופלות באזור הדחייה או הקבלה.

**שלב ו:** להסיק מסקנה בהתאם לתוצאות המדגם.

### דוגמה (פתרון בהקלטה):

משרד הבריאות פרסם שמשקל ממוצע של תינוקות ביום לידתם בישראל 3300 גרם. משרד הבריאות רוצה לחקור את הטענה שנשים מעשנות בזמן ההיריון יולדות תינוקות במשקל נמוך מהממוצע. במחקר השתתפו 20 נשים מעשנות בהריון. להלן תוצאות המדגם שבדק את המשקל של התינוקות בעת הלידה:

$$n = 20, \bar{X} = 3120, S = 280$$

- א. מהי אוכלוסיית המחקר?
- ב. מה המשתנה הנחקר?
- ג. מה הפרמטר הנחקר?
- ד. מהן השערות המחקר?

## שאלות:

בשאלות הבאות, ענו על הסעיפים הבאים:

- א. מהי אוכלוסיית המחקר?
- ב. מה המשתנה הנחקר?
- ג. מה הפרמטר הנחקר?
- ד. מהן השערות המחקר?

- (1) ממוצע הציונים בבחינת הבגרות באנגלית הנו 72 עם סטיית תקן 15 נקודות. מורה טוען שפיתח שיטת לימוד חדשה שתעלה את ממוצע הציונים. משרד החינוך החליט לתת למורה 36 תלמידים אקראיים. ממוצע הציונים של אותם תלמידים לאחר שלמדו בשיטתו היה 75.5.
- (2) לפי הצהרת היצרן של חברת משקאות מסוימת נפח הנוזל בבקבוק מתפלג נורמלית עם תוחלת 500 סמ"ק וסטיית תקן 20 סמ"ק. אגודת הצרכנים מתלוננת על הפחתת נפח המשקה בבקבוק מהכמות המוצהרת. במדגם שעשתה אגודת הצרכנים התקבל נפח ממוצע של 492 סמ"ק במדגם בגודל 25.
- (3) במשך שנים אחוז המועמדים שהתקבל לפקולטה למשפטים היה 25%. השנה מתוך מדגם של 120 מועמדים התקבלו 22. מחקר מעוניין לבדוק האם השנה מקשים על הקבלה לפקולטה למשפטים.
- (4) בחודש ינואר השנה פורסם שאחוז האבטלה במשק הוא 8% במדגם עכשווי התקבל שמתוך 200 אנשים 6.5% מובטלים. רוצים לבדוק ברמת מובהקות של 5% האם כיום אחוז האבטלה הוא כמו בתחילת השנה.

### תשובות סופיות:

- (1) א. נבחנים בבגרות באנגלית.  
 ב. ציון.  
 ג. ממוצע הציונים בשיטת לימוד חדשה.  
 ד.  $H_0: \mu = 72$   
 $H_1: \mu > 72$
- (2) א. משקאות בבקבוק של חברה מסוימת.  
 ב. נפח משקה בסמ"ק.  
 ג. ממוצע נפח המשקה בבקבוק.  
 ד.  $H_0: \mu = 500$   
 $H_1: \mu < 500$
- (3) א. מועמדים לפקולטה למשפטים.  
 ב. משתנה דיכוטומי (התקבל, לא התקבל).  
 ג. אחוז הקבלה.  
 ד.  $H_0: p = 0.25$   
 $H_1: p < 0.25$
- (4) א. אזרחים בוגרים במשק.  
 ב. משתנה דיכוטומי (מובטל, עובד).  
 ג. אחוז האבטלה כיום.  
 ד.  $H_0: p = 0.08$   
 $H_1: p \neq 0.08$

## סוגי טעויות:

### רקע:

בתהליך של בדיקת השערות יוצרים כלל שניקרא כלל הכרעה.  
 הכלל יוצר אזורים שנקראים:

1. אזור דחייה – דחייה של השערת האפס כלומר קבלה של האלטרנטיבה.
2. אזור קבלה – קבלה של השערת האפס ודחייה של האלטרנטיבה.

כלל ההכרעה מתבסס על איזשהו סטטיסטי.  
 בתהליך יש ללכת לתוצאות המדגם ולבדוק האם התוצאות נופלות באזור הדחייה או הקבלה וכך להגיע למסקנה – המסקנה היא בעירבון מוגבל כיוון שהיא תלויה בכלל ההכרעה ובתוצאות המדגם. אם נשנה את כלל ההכרעה אז אנחנו יכולים לקבל מסקנה אחרת. אם נבצע מדגם חדש אז אנחנו עלולים לקבל תוצאה אחרת. לכן יתכנו טעויות במסקנות שלנו:

		הכרעה	
		$H_0$	$H_1$
מציאות	$H_0$	אין טעות	טעות מסוג 1
	$H_1$	טעות מסוג 2	אין טעות

### הגדרת הטעויות:

טעות מסוג ראשון: להכריע לדחות את  $H_0$  למרות שבמציאות  $H_0$  נכונה.

טעות מסוג שני: להכריע לקבל את  $H_0$  למרות שבמציאות  $H_1$  נכונה.

### דוגמה (פתרון בהקלטה):

אדם חשוד בביצוע עבירה ונתבע בבית המשפט.  
 אילו סוגי טעויות אפשריות בהכרעת הדין?

## שאלות:

- (1) לפי הצהרת היצרן של חברת משקאות מסוימת נפח הנוזל בבקבוק מתפלג נורמלית עם תוחלת 500 סמ"ק וסטיית תקן 20 סמ"ק. אגודת הצרכנים מתלוננת על הפחתת נפח המשקה בבקבוק מהכמות המוצהרת. במדגם שעשתה אגודת הצרכנים התקבל נפח ממוצע של 492 סמ"ק במדגם בגודל 25. בסופו של דבר הוחלט להכריע לטובת חברת המשקאות.
- א. רשמו את השערות המחקר.  
 ב. מה מסקנת המחקר?  
 ג. איזו סוג טעות יתכן וביצעו במחקר?
- (2) במחקר על פרמטר מסוים הוחלט בסופו של דבר לדחות את השערת האפס.
- א. האם ניתן לדעת אם בוצע טעות במחקר?  
 ב. מה סוג הטעות האפשרית?
- (3) לפי נתוני משרד הפנים בשנת 1980 למשפחה ממוצעת היה 2.3 ילדים למשפחה עם סטיית תקן 0.4. ישנה טענה שכיום ממוצע מספר הילדים במשפחה קטן יותר. לצורך כך הוחלט לדגום 121 משפחות. במדגם התקבל ממוצע 2.17 ילדים למשפחה. על סמך תוצאות המדגם נקבע שלא ניתן לקבוע שבאופן מובהק תוחלת מספר הילדים למשפחה קטנה כיום.
- א. מהי אוכלוסיית המחקר?  
 ב. מה המשתנה הנחקר?  
 ג. מה הפרמטר הנחקר?  
 ד. מה השערות המחקר?  
 ה. מה מסקנת המחקר?  
 ו. מהי סוג הטעות האפשרית במחקר?

## תשובות סופיות:

- (1) א.  $H_0: \mu = 500$   
 ב. לא דחינו את  $H_0$ .  
 ג. טעות מסוג שני.
- (2) א. לא ניתן לדעת.  
 ב. טעות מסוג ראשון.  
 (3) א. משפחות כיום.  
 ב. מס' הילדים.  
 ג. תוחלת מספר הילדים למשפחה כיום.  
 ה. לא לדחות את  $H_0$ . ו. טעות מסוג שני.
- ד.  $H_0: \mu = 2.3$   
 $H_1: \mu < 2.3$

# סטטיסטיקה למנהלים

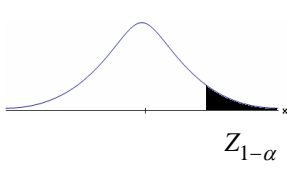
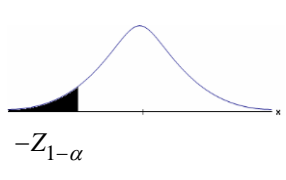
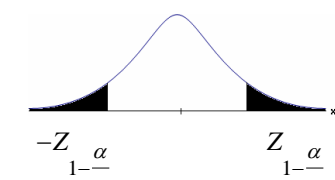
פרק 16 - בדיקת השערות על תוחלת (ממוצע)

תוכן העניינים

1. בדיקת השערות על תוחלת (ממוצע) כששונות האוכלוסיה ידועה. .... 43
2. מובהקות תוצאה - אלפא מינימלית (ששונות האוכלוסיה ידועה) ..... 47
3. בדיקת השערות על תוחלת ( ממוצע) כששונות האוכלוסיה לא ידועה. .... 52
4. מובהקות תוצאה - אלפא מינימלית (ששונות האוכלוסיה לא ידועה). .... 56

## בדיקת השערות על תוחלת (ממוצע) כששונות האוכלוסייה ידועה:

רקע:

$H_0: \mu \leq \mu_0$ $H_1: \mu > \mu_0$	$H_0: \mu \geq \mu_0$ $H_1: \mu < \mu_0$	$H_0: \mu = \mu_0$ $H_1: \mu \neq \mu_0$	השערת האפס: השערה אלטרנטיבה:
1. $\sigma$ ידועה 2. $X \sim N$ או מדגם מספיק גדול			תנאים:
$Z_{\bar{x}} > Z_{1-\alpha}$	$Z_{\bar{x}} < -Z_{1-\alpha}$	$Z_{\bar{x}} < -Z_{1-\frac{\alpha}{2}}$ או $Z_{\bar{x}} > Z_{1-\frac{\alpha}{2}}$	כלל ההכרעה: אזור הדחייה של $H_0$ :
			
דוחים את $H_0$ ■	דוחים את $H_0$ ■	דוחים את $H_0$ ■	

$$Z_{\bar{x}} = \frac{\bar{X} - \mu_0}{\frac{\sigma}{\sqrt{n}}}$$

סטטיסטי המבחן:

חלופה אחרת לכלל הכרעה:

$\bar{X} > \mu_0 + Z_{1-\alpha} \cdot \frac{\sigma}{\sqrt{n}}$	$\bar{X} < \mu_0 - Z_{1-\alpha} \cdot \frac{\sigma}{\sqrt{n}}$	$\bar{X} > \mu_0 + Z_{1-\frac{\alpha}{2}} \cdot \frac{\sigma}{\sqrt{n}}$ או $\bar{X} < \mu_0 - Z_{1-\frac{\alpha}{2}} \cdot \frac{\sigma}{\sqrt{n}}$	נדחה $H_0$ אם מתקיים:
--	--	--	-----------------------

**דוגמה:**

יבול העגבניות מתפלג נורמלית עם תוחלת של 10 טון לדונם וסטיית תקן של 2.5 טון לדונם בעונה. משערים ששיטת זיבול חדשה תעלה את תוחלת היבול לעונה מבלי לשנות את סטיית התקן. נדגמו 4 חלקות שזובלו בשיטה החדשה. היבול הממוצע שהתקבל היה 12.5 טון לדונם. בדקו את ההשערה ברמת מובהקות של 1%.

**פיתרון:**

אוכלוסייה: עגבניות.

המשתנה:  $X =$  יבול העגבניות בטון לעונה.

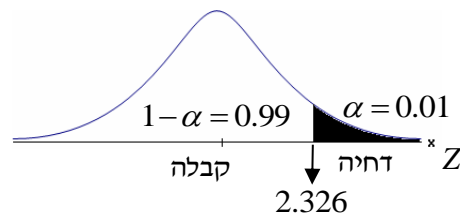
הפרמטר:  $\mu =$  תוחלת היבול בשיטת הזיבול החדשה.

השערות:  
 $H_0: \mu = 10$   
 $H_1: \mu > 10$

**תנאים:**

1.  $X \sim N$

2.  $\sigma = 2.5$

**כלל הכרעה:**

נדחה את  $H_0$  אם  $Z_{\bar{x}} > 2.326$

תוצאות:  $n = 4$ ,  $\bar{x} = 12.5$

סטטיסטי המבחן:  $Z_{\bar{x}} = \frac{\bar{X} - \mu_0}{\frac{\sigma}{\sqrt{n}}}$

נציב:  $Z_{\bar{x}} = \frac{1.25 - 10}{\frac{2.5}{\sqrt{4}}} = 2 < 2.326$

**מסקנה:**

לא נדחה  $H_0$  (נקבל  $H_0$ ).

ברמת מובהקות של 1% לא נוכל לקבל את הטענה ששיטת הזיבול החדשה מעלה את תוחלת היבול של העגבניות.

## שאלות:

- (1) ממוצע הציונים בבחינת הבגרות באנגלית הנו 72 עם סטיית תקן 15 נקודות. מורה טוען שפיתח שיטת לימוד חדשה שתעלה את ממוצע הציונים. משרד החינוך החליט לתת למורה 36 תלמידים אקראיים. ממוצע הציונים של אותם תלמידים לאחר שלמדו בשיטתו היה 75.5. בהנחה שגם בשיטתו סטיית התקן תהיה 15 מה מסקנתכם ברמת מובהקות של 5%?
- (2) לפי הצהרת היצרן של חברת משקאות מסוימת נפח הנוזל בבקבוק מתפלג נורמלית עם תוחלת 500 ס"מ<sup>3</sup> וסטיית תקן 20 ס"מ<sup>3</sup>. אגודת הצרכנים מתלוננת על הפחתת נפח המשקה בבקבוק מהכמות המוצהרת. במדגם שעשתה אגודת הצרכנים התקבל נפח ממוצע של 492 ס"מ<sup>3</sup> במדגם בגודל 25. א. מה מסקנתכם ברמת מובהקות של 2.5%? ב. האם ניתן לדעת מה תהיה המסקנה עבור רמת מובהקות הגבוהה מ-5%?
- (3) מהנדס האיכות מעוניין לבדוק אם מכונה מכיילת (מאופסת). המכונה כוונה לחתוך מוטות באורך 50 ס"מ. לפי נתוני היצרן סטיית התקן בחיתוך המוטות היא 0.5 ס"מ. במדגם של 50 מוטות התקבל ממוצע אורך המוט 50.93 ס"מ. מה מסקנתכם ברמת מובהקות של 5%?
- (4) המשקל הממוצע של הספורטאים בתחום ספורט מסוים הוא 90 ק"ג, עם סטיית תקן 8 ק"ג. לפי דעת מומחים בתחום יש צורך בהורדת המשקל ובשימוש בדיאטה מסוימת שצריכה להביא להורדת המשקל. לשם בדיקת יעילות הדיאטה נלקח מדגם מקרי של 50 ספורטאים ובתום שנה של שימוש בדיאטה התברר שהמשקל הממוצע במדגם זה היה 84 ק"ג. יש לבדוק בר"מ של 10%, האם הדיאטה גורמת להורדת המשקל.
- (5) לפי מפרט נתון, על עובי בורג להיות 4 מ"מ עם סטיית תקן של 0.2 מ"מ. במדגם של 25 ברגים העובי הממוצע היה 4.07 מ"מ. קבעו ברמת מובהקות 0.05, האם עובי הברגים מתאים למפרט. הניחו כי עובי של בורג מתפלג נורמלית וסטיית התקן של עובי בורג היא אכן 0.2 מ"מ.
- (6) במחקר נמצא שתוצאה היא מובהקת ברמת מובהקות של 5% מה תמיד נכון? בחרו בתשובה הנכונה.
- א. הגדלת רמת המובהקות לא תשנה את מסקנת המחקר.  
 ב. הגדלת רמת המובהקות תשנה את מסקנת המחקר.  
 ג. הקטנת רמת המובהקות לא תשנה את מסקנת המחקר.  
 ד. הקטנת רמת המובהקות תשנה את מסקנת המחקר.

(7) חוקר ערך מבחן דו צדדי ברמת מובהקות של  $\alpha$  והחליט לדחות את השערת האפס.

אם החוקר היה עורך מבחן צדדי ברמת מובהקות של  $\frac{\alpha}{2}$  אזי בהכרח:

- א. השערת האפס הייתה נדחית.
- ב. השערת האפס הייתה לא נדחית.
- ג. לא ניתן לדעת מה תהיה מסקנתו במקרה זה.

(8) שני סטטיסטיקאים בדקו השערות:  $H_0: \mu = \mu_0$  כנגד  $H_1: \mu > \mu_0$ ,

עבור שונות ידועה ובאותה רמת מובהקות.

שני החוקרים קבלו אותו ממוצע במדגם אך לחוקר א' היה מדגם בגודל 100 ולחוקר ב' מדגם בגודל 200.

- א. אם חוקר א' החליט לדחות את  $H_0$ , מה יחליט חוקר ב'? נמקו.
- ב. אם חוקר א' יחליט לא לדחות את  $H_0$ , מה יחליט חוקר ב'? נמקו.

### תשובות סופיות:

(1) נקבל  $H_0$ , בר"מ של 5% לא נקבל את הטענה של המורה ששיטת הלימוד שלו מעלה את ממוצע הציונים.

(2) א. נדחה  $H_0$ , בר"מ של 2.5% נקבל את תלונת אגודת הצרכנים בדבר הפחתת נפח המשקה בבקבוק.

ב. הגדלנו את רמת המובהקות לכן אנחנו נשארים בדחייה של  $H_0$  והמסקנה לא תשתנה.

(3) נדחה  $H_0$ , בר"מ של 5% נקבע שהמכונה לא מאופסת.

(4) נדחה  $H_0$ , בר"מ של 0.1 נקבל את הטענה שהדיאטה יעילה ומפחיתה את המשקל הממוצע.

(5) נקבל  $H_0$ , בר"מ של 0.05 נכריע שתוחלת עובי הבורג מתים למפרט.

(6) א'.

(7) ג'.

(8) א. לדחות. ב. לא ניתן לדעת.

## מובהקות תוצאה – אלפא מינימלית (ששונות האוכלוסייה ידועה):

### רקע:

דרך נוספת להגיע להכרעות שלא דרך כלל הכרעה, היא דרך חישוב מובהקות התוצאה:

באמצעות תוצאות המדגם מחשבים את מובהקות התוצאה שמסומן ב- $p_v$ . את רמת המובהקות החוקר קובע מראש לעומת זאת, את מובהקות התוצאה החוקר יוכל לחשב רק אחרי שיהיו לו את התוצאות.

המסקנה של המחקר תקבע לפי העיקרון הבא: אם  $p_v \leq \alpha$ , דוחים את  $H_0$ . מובהקות התוצאה זה הסיכוי לקבלת תוצאות המדגם וקיצוני מתוצאות אלה בהנחת השערת האפס.

(לקבל את תוצאות המדגם וקיצוני)  $p_v = P_{H_0}$ .

אם ההשערה היא דו צדדית:

(לקבל את תוצאות המדגם וקיצוני)  $p_v = 2P_{H_0}$ .

מובהקות התוצאה היא גם האלפא המינימלית לדחיית השערת האפס.

$H_0: \mu = \mu_0$ $H_1: \mu > \mu_0$	$H_0: \mu = \mu_0$ $H_1: \mu < \mu_0$	$H_0: \mu = \mu_0$ $H_1: \mu \neq \mu_0$	השערת האפס: השערה אלטרנטיבה:
1. $\sigma$ ידועה			תנאים:
2. $X \sim N$ או מדגם מספיק גדול			
$P_{H_0}(\bar{X} \geq \bar{x})$	$P_{H_0}(\bar{X} \leq \bar{x})$	אם $2 \cdot P_{H_0}(\bar{X} \geq \bar{x}) \leftarrow \bar{x} > \mu_0$ אם $2 \cdot P_{H_0}(\bar{X} \leq \bar{x}) \leftarrow \bar{x} < \mu_0$	p-value

כאשר בהנחת השערת האפס:  $Z_{\bar{x}} = \frac{\bar{x} - \mu_0}{\frac{\sigma}{\sqrt{n}}}$ ,  $\bar{X} \sim N\left(\mu_0, \frac{\sigma^2}{n}\right)$

**דוגמה:**

המשקל הממוצע של מתגייסים לצבא לפני 20 שנה היה 65 ק"ג. מחקר מעוניין לבדוק האם כיום המשקל הממוצע של מתגייסים גבוה יותר. נניח שמשקל המתגייסים מתפלג נורמאלית עם סטיית תקן של 12 ק"ג. במדגם של 16 מתגייסים התקבל משקל ממוצע של 71 ק"ג.

א. מהי מובהקות התוצאה?

ב. מה המסקנה אם רמת המובהקות היא 5% ואם רמת המובהקות היא 1%?

**פתרון:**

א. אוכלוסייה: המתגייסים לצבא כיום.

משתנה:  $X =$  משקל בק"ג.

פרמטר:  $\mu$ .

$$H_0: \mu = 65$$

השערות:  $H_1: \mu > 65$

תנאים:

$$1. X \sim N$$

$$2. \sigma = 12$$

תוצאות מדגם:

$$n = 16$$

$$\bar{X} = 71$$

$$P_V = P_{H_0} \left( \begin{array}{c} \text{לתוצאות} \\ \text{המדגם} \\ \text{וקיצוני} \end{array} \right) = P_{H_0} (\bar{X} \geq 71) = 1 - \phi(2) = 1 - 0.9772 = 0.0228$$

$$Z_{\bar{x}} = \frac{\bar{x} - \mu_0}{\frac{\sigma}{\sqrt{n}}} = \frac{71 - 65}{\frac{12}{\sqrt{16}}} = 2$$

$$\alpha_{\min} = 0.0228$$

## שאלות:

- (1) להלן השערות של מחקר:  $H_0: \mu = 70$ ,  $H_1: \mu > 70$ . המשתנה הנחקר מתפלג נורמלית עם סטיית תקן 20. במדגם מאותה אוכלוסייה התקבלו התוצאות הבאות:  $n = 100$ ,  $\bar{x} = 74$ . מהי מובהקות התוצאה?
- (2) השכר הממוצע במשק בשנת 2012 היה 8800 ₪ עם סטיית תקן 2000. במדגם שנעשה אתמול על 100 עובדים התקבל שכר ממוצע 9500 ₪. מטרת המחקר היא לבדוק האם כיום חלה עליה בשכר. עבור אילו רמות מובהקות שיבחר החוקר יוחלט שחלה עליה בשכר הממוצע במשק?
- (3) אדם חושד שחברת ממתקים לא עומדת בהתחייבויותיה, ומשקלו של חטיף מסוים אותו הוא קונה מדי בוקר נמוך מ-100 גרם. חברת הממתקים טוענת מצידה שהיא אכן עומדת בהתחייבויותיה. ידוע כי סטיית התקן של משקל החטיף היא 12 גרם. האדם מתכוון לשקול 100 חפיסות חטיפים ולאחר מכן להגיע להחלטה. לאחר הבדיקה הוא קיבל משקל הממוצע של 98.5 גרם.
- א. רשמו את השערות המחקר.  
 ב. מהי רמת המובהקות המינימלית עבורה דוחים את השערת האפס?  
 ג. מהי רמת המובהקות המקסימלית עבורה נקבל את השערת האפס?  
 ד. מה המסקנה ברמת מובהקות של 5?
- (4) מכונה לחיתוך מוטות במפעל חותכת מוטות באורך שמתפלג נורמלית עם תוחלת אליה כוונה המכונה וסטיית תקן 2 ס"מ. ביום מסוים כוונה המכונה לחתוך מוטות באורך 80 ס"מ. אחראי האיכות מעוניין לבדוק האם המכונה מכוילת. לצורך כך נדגמו מקו הייצור 16 מוטות שנחתכו אורכן הממוצע היה 81.7 ס"מ.
- א. מהי רמת המובהקות המינימלית עבורה נכריע שהמכונה לא מכוילת?  
 ב. אם נוסיף עוד תצפית שערכה יהיה 82 ס"מ, כיצד הדבר ישפיע על התשובה של הסעיף הקודם?  
 ג. הכרע ברמת מובהקות של 5% האם המכונה מכוילת.
- (5) אם מקבלים בחישובים אלפא מינימלית (P value) קטנה מאד, סביר להניח כי החוקר ידחה את השערת האפס בקלות. נכון/לא נכון? נמק.

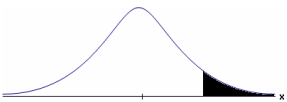

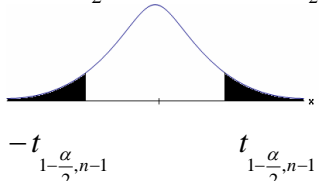
- 6) בבדיקת השערות התקבל שה-  $p\text{-value} = 0.02$ .  
 מה תהיה מסקנת חוקר המשתמש ברמת מובהקות 1%?  
 בחרו בתשובה הנכונה.
- א. יקבל את השערת האפס בכל מקרה.
  - ב. ידחה את השערת האפס מקרה.
  - ג. ידחה את השערת האפס רק אם המבחן הנו דו צדדי.
  - ד. לא ניתן לדעת כי אין מספיק נתונים.
- 7) מובהקות התוצאה (PV) היא גם (בחרו בתשובה הנכונה):
- א. רמת המובהקות המינימאלית לדחות השערת האפס.
  - ב. רמת המובהקות המקסימאלית לדחיית השערת האפס.
  - ג. רמת המובהקות שנקבעת מראש על ידי החוקר שטרם קיבל את תוצאות המחקר.
  - ד. רמת המובהקות המינימאלית לאי דחיית השערת האפס.
- 8) בבדיקת השערות מסוימת התקבל:  $p\text{ value} = 0.0254$  לכן (בחרו בתשובה הנכונה):
- א. ברמת מובהקות של 0.01 אך לא של 0.05 נדחה את  $H_0$ .
  - ב. ברמת מובהקות של 0.01 ושל 0.05 לא נדחה את  $H_0$ .
  - ג. ברמת מובהקות של 0.05 אך לא של 0.01 נדחה את  $H_0$ .
  - ד. ברמת מובהקות של 0.01 ושל 0.05 נדחה את  $H_0$ .

### תשובות סופיות:

- (1) 0.0228
- (2) עבור כל רמת מובהקות סבירה.
- (3) א.  $H_0: \mu = 100$   
 ב. 0.1056 ג. 0.1056  
 ד.  $H_1: \mu < 100$
- (4) א. 0.0006 ב. יקטן ג. נכריע שאין כיול. ד. נכריע שיש עמידה בהתחייבות של החברה.
- (5) נכון.
- (6) א'.
- (7) א'.
- (8) ג'.

## בדיקת השערות על תוחלת (ממוצע) כששונות האוכלוסייה לא ידועה:

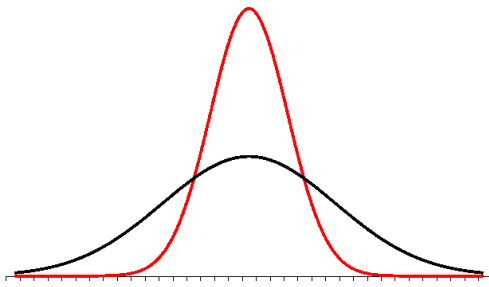
רקע:

$H_0 : \mu = \mu_0$ $H_1 : \mu > \mu_0$	$H_0 : \mu = \mu_0$ $H_1 : \mu < \mu_0$	$H_0 : \mu = \mu_0$ $H_1 : \mu \neq \mu_0$	השערת האפס: השערה אלטרנטיבה:
1. $\sigma$ אינה ידועה 2. $X \sim N$ או מדגם מספיק גדול			תנאים:
$t_{\bar{x}} > t_{1-\alpha}^{(n-1)}$  $t_{1-\alpha, n-1}$ - דוחים את $H_0$	$t_{\bar{x}} < -t_{1-\alpha}^{(n-1)}$  $-t_{1-\alpha, n-1}$ - דוחים את $H_0$	$t_{\bar{x}} < -t_{1-\frac{\alpha}{2}}^{(n-1)}$ או $t_{\bar{x}} > t_{1-\frac{\alpha}{2}}^{(n-1)}$  $-t_{1-\frac{\alpha}{2}, n-1}$ $t_{1-\frac{\alpha}{2}, n-1}$ - דוחים את $H_0$	כלל ההכרעה: אזור הדחייה של $H_0$ :
$\bar{X} > \mu_0 + t_{1-\alpha}^{n-1} \cdot \frac{S}{\sqrt{n}}$	$\bar{X} < \mu_0 - t_{1-\alpha}^{n-1} \cdot \frac{S}{\sqrt{n}}$	$\bar{X} > \mu_0 + t_{1-\frac{\alpha}{2}}^{n-1} \cdot \frac{S}{\sqrt{n}}$ או $\bar{X} < \mu_0 - t_{1-\frac{\alpha}{2}}^{n-1} \cdot \frac{S}{\sqrt{n}}$	חלופה לכלל הכרעה: נדחה $H_0$ אם מתקיים:

$$t_{\bar{x}} = \frac{\bar{x} - \mu_0}{\frac{S}{\sqrt{n}}}$$

סטטיסטי המבחן:

$$S^2 = \frac{\sum_{i=1}^n (X_i - \bar{X})^2}{n-1} = \frac{\sum_{i=1}^n X_i^2 - n\bar{X}^2}{n-1}$$



### התפלגות T:

הינה התפלגות סימטרית פעמונית שהתוחלת שלה היא 0. ההתפלגות דומה להתפלגות Z רק שהיא יותר רחבה ולכן הערכים שלה יהיו יותר גבוהים. התפלגות T תלויה במושג שנקרא דרגות חופש.

דרגות החופש הן:  $df = n - 1$ .

ככל שדרגות החופש עולות ההתפלגות הופכת להיות יותר גבוהה וצרה. כשדרגות החופש שואפות לאינסוף התפלגות T שואפת להיות כמו התפלגות Z.

### דוגמה (פתרון בהקלטה):

מפעל קיבל הזמנה לייצור משטחים בעובי של 0.1 ס"מ. כדי לבדוק האם המפעל עומד בדרישה נדגמו 10 משטחים ונמצא שהעובי הממוצע הוא 0.104 עם אומדן לסטיית תקן 0.002 ס"מ.

א. מהן השערות המחקר?

ב. מה ההנחה הדרושה לצורך פתרון?

ג. בדוק ברמת מובהקות של 5%.

## שאלות:

(1) משך זמן ההחלמה בלקיחת אנטיביוטיקה מסוימת הוא 120 שעות בממוצע עם סטיית תקן לא ידועה. מעוניינים לבדוק האם אנטיביוטיקה אחרת מקטינה את משך זמן ההחלמה. במדגם של 5 חולים שלקחו את האנטיביוטיקה האחרת התקבלו זמני ההחלמה הבאים: 90, 95, 100, 80, 125 שעות. מה מסקנתכם ברמת מובהקות של 5%. מהי ההנחה הדרושה לצורך הפתרון?

(2) משרד הבריאות פרסם שמשקל ממוצע של תינוקות ביום היוולדם בישראל 3300 גר'. משרד הבריאות רוצה לחקור את הטענה ששנים מעשנות בזמן ההיריון יולדות תינוקות במשקל נמוך מהממוצע. במחקר השתתפו 20 נשים מעשנות בהריון. להלן תוצאות המדגם שבדק את המשקל של התינוקות בעת הלידה:

$$n = 20$$

$$\bar{x} = 3120$$

$$S = 280$$

מה מסקנתכם ברמת מובהקות של 5% מה יש להניח לצורך פתרון?

(3) ציוני מבחן אינטליגנציה מתפלגים נורמלית. בארה"ב ממוצע הציונים הוא 100. במדגם שנעשה על 23 נבחנים ישראלים, התקבל ממוצע ציונים 104.5 וסטיית התקן המדגמית 16. האם בישראל ממוצע הציונים שונה מארה"ב? הסיקו ברמת מובהקות של 5%.

(4) באוכלוסייה מסוימת נדגמו 10 תצפיות והתקבלו התוצאות הבאות:

$$\sum_{i=1}^{10} X_i = 750$$

$$\sum_{i=1}^{10} (X_i - \bar{X})^2 = 900$$

נתון שההתפלגות היא נורמלית.

בדוק ברמת מובהקות של 5% האם התוחלת של ההתפלגות שונה מ-80.

- (5) ליאור ורוני העלו את אותן השערות על ממוצע האוכלוסייה. כמו כן הם התבססו על אותן תוצאות של מדגם. ליאור השתמש בטבלה של התפלגות  $Z$ . רוני השתמשה בטבלה של התפלגות  $t$ . מה נוכל לומר בנוגע להחלטת המחקר שלהם? בחר בתשובה הנכונה.
- אם ליאור ידחה את השערת האפס אז גם בהכרח רוני.
  - אם רוני תדחה את השערת האפס אז גם בהכרח ליאור.
  - שני החוקרים בהכרח יגיעו לאותה מסקנה.
  - לא ניתן לדעת על היחס בין דחיית השערת האפס של שני החוקרים.

- (6) נתון ש:  $X \sim N(\mu, \sigma^2)$  כמו כן נתונות ההשערות הבאות:  $H_0: \mu = \mu_0$  ,  $H_1: \mu < \mu_0$
- חוקר בדק את ההשערות הללו על סמך מדגם שכלל 10 תצפיות.  $\sigma^2$  לא הייתה ידועה לחוקר. החוקר החליט לדחות את השערת האפס ברמת מובהקות של 5% לאחר מכן כדי לחזק את קביעתו הוא דגם עוד 5 תצפיות ושקלל את תוצאות אלה גם למדגם כך שכלל עכשיו 15 תצפיות. בחר בתשובה הנכונה:
- כעת בברור הוא ידחה את השערת האפס.
  - כעת הוא דווקא יקבל את השערת האפס.
  - כעת לא ניתן לדעת מה תהיה מסקנתו.

### תשובות סופיות:

- (1) נדחה  $H_0$ .
- (2) נדחה  $H_0$ .
- (3) נקבל  $H_0$ .
- (4) נקבל  $H_0$ .
- (5) ב'.
- (6) ג'.

## מובהקות תוצאה – אלפא מינימלית (ששונות האוכלוסייה לא ידועה):

### רקע:

נוכיר שהמסקנה של המחקר תיקבע לפי העיקרון הבא: אם  $p_v \leq \alpha$  דוחים את  $H_0$ . מובהקות התוצאה היא הסיכוי לקבלת תוצאות המדגם וקיצוני מתוצאות אלה בהנחת השערת האפס.

(לקבל את תוצאות המדגם וקיצוני)  $p_v = P_{H_0}$ .

אם ההשערה היא דו צדדית:

(לקבל את תוצאות המדגם וקיצוני)  $p_v = 2P_{H_0}$ .

מובהקות התוצאה היא גם האלפא המינימלית לדחיית השערת האפס.

$H_0: \mu = \mu_0$ $H_1: \mu > \mu_0$	$H_0: \mu = \mu_0$ $H_1: \mu < \mu_0$	$H_0: \mu = \mu_0$ $H_1: \mu \neq \mu_0$	השערת האפס: השערה אלטרנטיבה:
1. אינה ידועה $\sigma$ או 2. מדגם מספיק גדול $X \sim N$			תנאים:
$P_{H_0}(\bar{X} \geq \bar{x})$	$P_{H_0}(\bar{X} \leq \bar{x})$	אם $2 \cdot P_{H_0}(\bar{X} \geq \bar{x}) \leftarrow \bar{x} > \mu_0$ אם $2 \cdot P_{H_0}(\bar{X} \leq \bar{x}) \leftarrow \bar{x} < \mu_0$	p-value

$$t_{\bar{x}} = \frac{\bar{x} - \mu_0}{\frac{S}{\sqrt{n}}}$$

$$S^2 = \frac{\sum_{i=1}^n (X_i - \bar{X})^2}{n-1} = \frac{\sum_{i=1}^n X_i^2 - n\bar{X}^2}{n-1}$$

$$d.f = n - 1$$

**דוגמה:**

ממוצע זמן הנסיעה של אדם לעבודה הינו 40 דקות. הוא מעוניין לבדוק דרך חלופית שאמורה להיות יותר מהירה. לצורך כך הוא דוגם 5 ימים שבהם הוא נוסע בדרך החלופית. זמני הנסיעה שקיבל בדקות הם: 34, 40, 30, 32, 27. הניחו שזמן הנסיעה מתפלג נורמלית.

- רשמו את השערות המחקר.
- מצאו חסמים למובהקות התוצאה.
- מה המסקנה ברמת מובהקות של 5%?

**פתרון:**

אוכלוסייה: כלל הנסיעות לעבודה בדרך החלופית.

משתנה:  $X =$  זמן נסיעה בדקות.

תנאים:  $X \sim N$ .

פרמטר:  $\mu$ .

א. השערות:  
 $H_0: \mu = 40$   
 $H_1: \mu < 40$

ב. תוצאות המדגם:

$$n = 5, \bar{X} = \frac{\sum X_i}{n} = \frac{34 + 40 + \dots}{5} = 32.6$$

$$S^2 = \frac{\sum X_i^2 - n \cdot \bar{X}^2}{n-1} = \frac{34^2 + 40^2 - \dots - 5 \cdot 32.6^2}{5-1} = 23.4$$

$$S = \sqrt{23.4}$$

$$t_{\bar{X}} = \frac{\bar{X} - \mu_0}{\frac{S}{\sqrt{n}}} = \frac{32.6 - 40}{\frac{4.88}{\sqrt{5}}} = -3.39$$

$$P_V = P_{H_0} = ( \bar{X} \leq 32.6 ) = P(t \leq -3.39)$$

$$d.f = 5 - 1 = 4$$

$$1\% < P_V < 2.5\%$$

$P_V < \alpha = 0.05$ , לכן דוחים את  $H_0$ .

מסקנה: בר"מ של 5% נכריע שהדרך החלופית מהירה יותר.

## שאלות:

- (1) קו ייצור אריזות סוכר נארזות כך שהמשקל הממוצע של אריזות הסוכר צריך להיות אחד קילוגרם. בכל יום דוגמים מקו הייצור 5 אריזות במטרה לבדוק האם קו הייצור תקין. בבדיקה דגמו 5 אריזות סוכר ולהלן משקלן בגרמים: 1024, 1008, 1005, 996, 997.
- א. רשמו את השערות המחקר.  
 ב. מהי מובהקות התוצאה? הצג חסמים.  
 ג. מה המסקנה ברמת מובהקות של 5%?
- (2) חוקר בדק את הטענה כי פועלים העובדים במשמרת לילה איטיים יותר מפועלים העובדים ביום. ידוע כי משך הזמן הממוצע הדרוש לייצר מוצר מסוים ביום הוא 6 שעות. במדגם מיקרי של 25 פועלים שעבדו במשמרת לילה נמצא כי הזמן הממוצע לייצר אותו מוצר הוא 7 שעות עם סטית תקן של 3 שעות.
- מהי ה- $\alpha$  המינימלית שלפיה ניתן להחליט שאכן העובדים במשמרת לילה איטיים יותר?
- (3) הגובה של מתגייסים לצה"ל מתפלג נורמלית. במדגם של 25 מתגייסים מדדו את הגבהים שלהם בס"מ והתקבלו התוצאות הבאות:
- $$\bar{x} = 176.2, \sum (x_i - \bar{x})^2 = 2832$$
- מטרת המחקר היא לבדוק האם תוחלת הגבהים של המתגייסים גבוה מ-174 ס"מ באופן מובהק.
- מהי בקרוב מובהקות התוצאה ועל פיה מה תהיה המסקנה ברמת מובהקות של 6%?

## תשובות סופיות:

- (1) א.  $H_0: \mu = 1000$   
 ב.  $20\% \leq P_v \leq 50\%$   
 ג. ברמת מובהקות של 5% לא נוכל לקבוע שקו הייצור אינו תקין.
- (2) 10%
- (3) 1.01, נקבל את  $H_0$ .

# סטטיסטיקה למנהלים

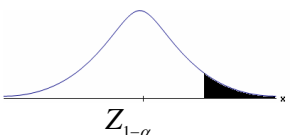
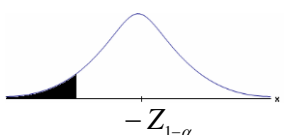
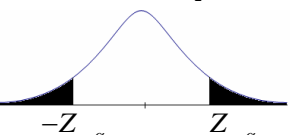
פרק 17 - בדיקת השערות על פרופורציה

תוכן העניינים

1. התהליך ..... 59
2. מובהקות התוצאה - אלפא מינימלית ..... 62

## התהליך:

רקע:

$H_0 : p = p_0$ $H_1 : p > p_0$	$H_0 : p = p_0$ $H_1 : p < p_0$	$H_0 : p = p_0$ $H_1 : p \neq p_0$	השערת האפס: השערה אלטרנטיבית:
$np_0 \geq 5 \text{ \& } n(1-p_0) \geq 5$			תנאים:
$Z_{\hat{p}} > Z_{1-\alpha}$  $Z_{1-\alpha}$ דוחים את $H_0$	$Z_{\hat{p}} < -Z_{1-\alpha}$  $-Z_{1-\alpha}$ דוחים את $H_0$	$Z_{\hat{p}} < -Z_{1-\frac{\alpha}{2}}$ או $Z_{\hat{p}} > Z_{1-\frac{\alpha}{2}}$  $-Z_{1-\frac{\alpha}{2}}$ $Z_{1-\frac{\alpha}{2}}$ דוחים את $H_0$	כלל ההכרעה: אזור הדחייה של $H_0$

$$Z_{\hat{p}} = \frac{\hat{p} - p_0}{\sqrt{\frac{p_0(1-p_0)}{n}}} \quad \text{סטטיסטי המבחן:}$$

חלופה אחרת לכלל הכרעה:

כלל ההכרעה – אזור הדחייה של $H_0$ :		
$\hat{p} > p_0 + Z_{1-\alpha} \cdot \sqrt{\frac{p_0(1-p_0)}{n}}$	$\hat{p} < p_0 - Z_{1-\alpha} \cdot \sqrt{\frac{p_0(1-p_0)}{n}}$	$\hat{p} > p_0 + Z_{1-\frac{\alpha}{2}} \cdot \sqrt{\frac{p_0(1-p_0)}{n}}$ $\hat{p} < p_0 - Z_{1-\frac{\alpha}{2}} \cdot \sqrt{\frac{p_0(1-p_0)}{n}}$

דוגמה (פתרון בהקלטה):

בחודש ינואר השנה פורסם שאחוז האבטלה במשק הוא 8% במדגם עכשווי התקבל שמתוך 200 אנשים 6.5% מובטלים. בדקו ברמת מובהקות של 5% האם כיום אחוז האבטלה הוא כמו בתחילת השנה.

## שאלות:

- (1) במשך שנים אחוז המועמדים שהתקבל לפקולטה מסוימת היה 25%. השנה מתוך מדגם של 120 מועמדים התקבלו 22. ברמת מובהקות של 5% האם השנה הקשו על תנאי הקבלה?
- (2) במדגם של 300 אזרחים 57% מתנגדים להצעת חוק מסוימת. לאור נתונים אלה האם רוב האזרחים מתנגדים להצעת החוק? בדקו ברמת מובהקות של 10%.
- (3) הטילו מטבע 50 פעמים וקיבלו 28 פעמים עץ. האם המטבע הוגן ברמת מובהקות של 5%?
- (4) קפיטריה במכללה מסוימת מעריכה כי אחוז הסטודנטים שקונים קפה בקפיטריה הינו 20%. נערך סקר אשר כלל 200 סטודנטים. התברר כי 33 מהם רוכשים קפה בקפיטריה. מטרת הסקר הייתה לבדוק את אמיתות הערכה של הקפיטריה.  
 א. רשמו את ההשערות.  
 ב. בדקו את ההשערות ברמת מובהקות של 10%.  
 ג. מה תהיה המסקנה אם נקטין את רמת המובהקות?
- (5) חבר כנסת רוצה להעביר חוק. לצורך כך הוא דוגם 400 אזרחים במטרה לבדוק האם רוב האזרחים תומכים בחוק. במדגם התקבל ש-276 אזרחים תומכים בחוק.  
 א. מה מסקנתכם ברמת מובהקות של 5%?  
 ב. האם ניתן לדעת מה תהיה המסקנה אם רמת המובהקות תהיה גדולה יותר? הסבירו.
- (6) שני חוקרים בדקו את ההשערות הבאות:  $H_0: p = p_0$ ,  $H_1: p > p_0$ . חוקר א' השתמש ברמת מובהקות  $\alpha_1$  וחוקר ב' ברמת מובהקות  $\alpha_2$  החוקר הראשון דחה את  $H_0$  ואילו החוקר השני קיבל את  $H_0$ . שניהם התבססו על אותם תוצאות של מדגם. בחר בתשובה הנכונה:  
 א.  $\alpha_1 = \alpha_2$ .  
 ב.  $\alpha_1 > \alpha_2$ .  
 ג.  $\alpha_1 < \alpha_2$ .  
 ד. המצב המתואר לא אפשרי.

### תשובות סופיות:

- (1) נדחה  $H_0$ .
- (2) נדחה  $H_0$ .
- (3) נקבל  $H_0$ .
- (4) א.  $H_0 : p = 0.2$   
 ב.  $H_1 : p \neq 0.2$   
 ג. המסקנה לא תשתנה.
- (5) א. נדחה  $H_0$ .  
 ב. המסקנה לא תשתנה.
- (6) ג'.

## מובהקות התוצאה – אלפא מינימלית:

### רקע:

דרך נוספת להגיע להכרעות שלא דרך כלל הכרעה, היא דרך חישוב מובהקות התוצאה: באמצעות תוצאות המדגם מחשבים את מובהקות התוצאה שמסומן ב-  $p_v$ . את רמת המובהקות החוקר קובע מראש לעומת זאת, את מובהקות התוצאה החוקר יוכל לחשב רק אחרי שיהיו לו את התוצאות. המסקנה של המחקר תקבע לפי העיקרון הבא:

אם  $p_v \leq \alpha$  דוחים את  $H_0$ .

מובהקות התוצאה זה הסיכוי לקבלת תוצאות המדגם וקיצוני מתוצאות אלה בהנחת השערת האפס.

לקבל את תוצאות המדגם וקיצוני  $p_v = P_{H_0}$ .

אם ההשערה היא דו צדדית:

לקבל את תוצאות המדגם וקיצוני  $p_v = 2P_{H_0}$ .

מובהקות התוצאה היא גם האלפא המינימלית לדחיית השערת האפס.

$H_0: p = p_0$ $H_1: p > p_0$	$H_0: p = p_0$ $H_1: p < p_0$	$H_0: p = p_0$ $H_1: p \neq p_0$	השערת האפס: השערה אלטרנטיבית:
$np_0 \geq 5 \ \& \ n(1-p_0) \geq 5$			תנאים:
$P_{H_0}(\hat{P} \geq \hat{p})$	$P_{H_0}(\hat{P} \leq \hat{p})$	אם $2 \cdot P_{H_0}(\hat{P} \geq \hat{p}) \leftarrow \hat{p} > p_0$ אם $2 \cdot P_{H_0}(\hat{P} \leq \hat{p}) \leftarrow \hat{p} < p_0$	p-value

כאשר בהנחת השערת האפס:  $\hat{P} \sim N\left(p_0, \frac{p_0(1-p_0)}{n}\right)$

התקנון:  $Z_{\hat{p}} = \frac{\hat{p} - p_0}{\sqrt{\frac{p_0(1-p_0)}{n}}}$

**דוגמה (פתרון בהקלטה):**

ישנה טענה שיש הבדל בין אחוז הבנים ואחוז הבנות הפונים ללמוד להנדסאי מחשבים. לשם כך נלקח מדגם מקרי של 200 תלמידים הלומדים מחשבים והתברר כי 112 מהם בנים.

א. מהי מובהקות התוצאה?

ב. מה המסקנה ברמת מובהקות של 5%?

## שאלות:

- (1) במשך שנים אחוז המועמדים שהתקבל לפקולטה מסוימת היה 25%. השנה מתוך מדגם של 120 מועמדים התקבלו 22. רוצים לבדוק האם השנה הקשו על תנאי הקבלה.  
 א. מהי מובהקות התוצאה?  
 ב. מה תהיה המסקנה ברמת מובהקות של 1% וברמת מובהקות של 5%?
- (2) נהוג לחשוב ש-60% מהילדים בגיל שלוש קמים מהמיטה במהלך הלילה לפחות פעם אחת. ישנה טענה שללא שנת צהריים פחות מ-60% מהילדים בגיל זה יקומו לפחות פעם אחת במהלך הלילה. נדגמו 80 ילדים בגיל 3 אשר אינם ישנים בצהריים מתוכם התקבל ש-41 קמו במהלך הלילה.  
 א. מהי רמת המובהקות המינימלית עבורה תתקבל הטענה במחקר?  
 ב. מהי רמת המובהקות המקסימלית עבורה לא תתקבל טענת המחקר?  
 ג. עבור אילו רמות מובהקות נקבל את טענת המחקר?  
 ד. מה תהיה מסקנת המחקר ברמת מובהקות של 6%?
- (3) במטרה לבדוק האם מטבע הוא הוגן מטילים אותו 80 פעמים. התקבל ש-60 מההטלות הראו עץ. רשמו את השערות המחקר, חשבו את מובהקות התוצאה והסיקו מסקנה ברמת מובהקות של 5%.
- (4) בבדיקת השערות על פרופורציה התקבל שה- $p\text{-value} = 0.02$ .  
 מה תהיה מסקנת חוקר המשתמש ברמת מובהקות 5%:  
 (בחרו בתשובה הנכונה)  
 א. יקבל את השערת האפס  
 ב. ידחה את השערת האפס.  
 ג. לא ניתן לדעת כי אין מספיק נתונים.
- (5) קבעו אם הטענה הבאה נכונה:  
 "במבחן לבדיקת השערות חד-צדדי התקבל ערך  $p\text{-value}$  של 3%, לכן אם היינו מבצעים מבחן דו-צדדי (כאשר יתר הנתונים ללא שינוי), היינו מקבלים ערך  $p\text{-value}$  של 6%".
- (6) במפעל 10% מהעובדים נפגעים לפחות פעם אחת בשנה מתאונות עבודה. לאור זאת, המפעל החליט לצאת בתוכנית לצמצום שיעור הנפגעים. תכנית זו נוסתה על 100 עובדים. מתוכם 12 נפגעו בתאונות עבודה במשך השנה. מהי רמת המובהקות הקטנה ביותר עבורה יוחלט שהתכנית יעילה?

### תשובות סופיות:

- (1) א. 0.0455  
 ב. ברמת מובהקות של 1% : לא דוחים את  $H_0$ .  
 ברמת מובהקות של 5% : נדחה את  $H_0$ .
- (2) א. 0.0548      ב. 0.0548      ג. מעל 0.0548  
 ד. נכריע לטובת טענת המחקר.
- (3)  $p_v = 0$ , נדחה את  $H_0$ .
- (4) ב'.
- (5) הטענה נכונה.
- (6) 0.7486

# סטטיסטיקה למנהלים

פרק 18 - מבחני חי בריבוע

תוכן העניינים

1. מבחן לאי תלות ..... 66
2. ניתוח פלטים במבחן אי תלות ..... 71

## מבחן חי בריבוע לאי תלות בין משתנים – רקע

מבחן לאי תלות מטרתו לבדוק האם קיים קשר בין שני משתנים. שני המשתנים שנבדקים צריכים להיות מחולקים למספר קטגוריות.

**מבנה המבחן:**

**השערות:**

אין תלות בין המשתנים  $H_0$ .

יש תלות בין המשתנים  $H_1$ .

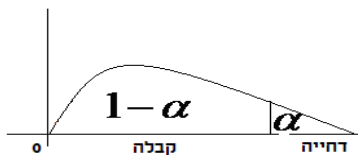
**כלל הכרעה:**

הערך הקריטי נקבע על סמך התפלגות חי בריבוע. התפלגות זו היא אסימטרית חיובית ותלויה בדרגות החופש  $d.f = (r-1)(c-1)$ . כאשר:  $r$  - מספר הקטגוריות של המשתנה שבשורות.  $c$  - מספר הקטגוריות של המשתנה שבעמודות.

הערך הקריטי הוא:  $\chi^2_{1-\alpha, (r-1)(c-1)}$ , כלומר האחוזון ה- $1-\alpha$  בהתפלגות חי בריבוע שדרגות החופש הן  $(r-1)(c-1)$ . אם  $\chi^2 > \chi^2_{1-\alpha, (r-1)(c-1)}$  אז דוחים את השערת האפס.

$$\chi^2 = \sum_{i=1}^k \frac{(O_i - E_i)^2}{E_i}$$

כאשר:



$O_i$  - השכיחות נצפית במדגם בתא  $i$ .

$E_i$  - שכיחות צפויה במדגם בתא  $i$  בהנחת השערת האפס.

$$E_i = \frac{f(x) \cdot f(y)}{n}$$

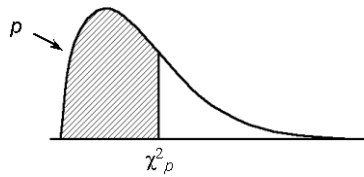
**הערה:**

תנאי כדי לבצע את המבחן הוא  $E_i \geq 5$  לכל  $i$ . במידה ותנאי זה לא מתקיים יש אפשרות לאחד קטגוריות סמוכות עד שהתנאי יתקיים.  
 תנאי חלופי: אין  $E$  קטן מ-1 וגם אין ביותר מ 20% מהתאים  $E$  קטן מ-5.

**דוגמה (הפתרון בהקלטה):**

האם יש תלות בין המגדר לבין דעה מסוימת?  
 יש לבדוק ברמת מובהקות של 5% על סמך תוצאות הסקר:

המגדר / דעה	בעד	נגד	נמנע	סה"כ
גברים	50	40	10	
נשים	20	60	20	
סה"כ				

טבלת התפלגות חי-בריבוע – ערכי החלוקה  $\chi^2_p$ 

df	$p$												
	.005	.01	.025	.05	.10	.25	.50	.75	.90	.95	.975	.99	.995
1	0.00393	0.0157	0.03982	0.07393	0.158	0.102	0.455	1.32	2.71	3.84	5.02	6.63	7.88
2	0.0100	0.0201	0.0506	0.103	0.211	0.575	1.39	2.77	4.61	5.99	7.38	9.21	10.6
3	0.0717	0.115	0.216	0.352	0.584	1.21	2.37	4.11	6.25	7.81	9.35	11.3	12.8
4	0.207	0.297	0.484	0.711	1.06	1.92	3.36	5.39	7.78	9.49	11.1	13.3	14.9
5	0.412	0.554	0.831	1.15	1.61	2.67	4.35	6.63	9.24	11.1	12.8	15.1	16.7
6	0.676	0.872	1.24	1.64	2.20	3.45	5.35	7.84	10.6	12.6	14.4	16.8	18.5
7	0.989	1.24	1.69	2.17	2.83	4.25	6.35	9.04	12.0	14.1	16.0	18.5	20.3
8	1.34	1.65	2.18	2.73	3.49	5.07	7.34	10.2	13.4	15.5	17.5	20.1	22.0
9	1.73	2.09	2.70	3.33	4.17	5.90	8.34	11.4	14.7	16.9	19.0	21.7	23.6
10	2.16	2.56	3.25	3.94	4.87	6.74	9.34	12.5	16.0	18.3	20.5	23.2	25.2
11	2.60	3.05	3.82	4.57	5.58	7.58	10.3	13.7	17.3	19.7	21.9	24.7	26.8
12	3.07	3.57	4.40	5.23	6.30	8.44	11.3	14.8	18.5	21.0	23.3	26.2	28.3
13	3.57	4.11	5.01	5.89	7.04	9.30	12.3	16.0	19.8	22.4	24.7	27.7	29.8
14	4.07	4.66	5.63	6.57	7.79	10.2	13.3	17.1	21.1	23.7	26.1	29.1	31.3
15	4.60	5.23	6.26	7.26	8.55	11.0	14.3	18.2	22.3	25.0	27.5	30.6	32.8
16	5.14	5.81	6.91	7.96	9.31	11.9	15.3	19.4	23.5	26.3	28.8	32.0	34.3
17	5.70	6.41	7.56	8.67	10.1	12.8	16.3	20.5	24.8	27.6	30.2	33.4	35.7
18	6.26	7.01	8.23	9.39	10.9	13.7	17.3	21.6	26.0	28.9	31.5	34.8	37.2
19	6.84	7.63	8.91	10.1	11.7	14.6	18.3	22.7	27.2	30.1	32.9	36.2	38.6
20	7.43	8.26	9.59	10.9	12.4	15.5	19.3	23.8	28.4	31.4	34.2	37.6	40.0
21	8.03	8.90	10.3	11.6	13.2	16.3	20.3	24.9	29.6	32.7	35.5	38.9	41.4
22	8.64	9.54	11.0	12.3	14.0	17.2	21.3	26.0	30.8	33.9	36.8	40.3	42.8
23	9.26	10.2	11.7	13.1	14.8	18.1	22.3	27.1	32.0	35.2	38.1	41.6	44.2
24	9.89	10.9	12.4	13.8	15.7	19.0	23.3	28.2	33.2	36.4	39.4	43.0	45.6
25	10.5	11.5	13.1	14.6	16.5	19.9	24.3	29.3	34.4	37.7	40.6	44.3	46.9
26	11.2	12.2	13.8	15.4	17.3	20.8	25.3	30.4	35.6	38.9	41.9	45.6	48.3
27	11.8	12.9	14.6	16.2	18.1	21.7	26.3	31.5	36.7	40.1	43.2	47.0	49.6
28	12.5	13.6	15.3	16.9	18.9	22.7	27.3	32.6	37.9	41.3	44.5	48.3	51.0
29	13.1	14.3	16.0	17.7	19.8	23.6	28.3	33.7	39.1	42.6	45.7	49.6	52.3
30	13.8	15.0	16.8	18.5	20.6	24.5	29.3	34.8	40.3	43.8	47.0	50.9	53.7

**שאלות**

1) נבדקה התלות בין גודל הארגון לבין שביעות הרצון של העובדים. להלן התוצאות:

גודל המפעל	שביעות רצון	נמוכה	בינונית	גבוהה	סה"כ
גדול	182	203	215	600	
קטן	154	110	136	400	
סה"כ	336	313	351	1000	

מה המסקנה ברמת מובהקות של 2.5%?

2) מפעל עובד בשלוש משמרות. להלן מספר המוצרים הפגומים והתקינים בכל אחת מן המשמרות לפי מדגם שנעשה:

	לילה	ערב	יום
פגומים	70	60	50
תקינים	800	700	600

האם יש הבדל בין שיעורי הפגומים במשמרות השונות? הסיקו עבור רמת מובהקות  $\alpha = 0.05$ .

3) נדגמו 50 מוצרים ממפעל מסוים מתוך 30 מוצרים שיוצרו ביום 17 נבחרו לייצוא מתוך המוצרים שיוצרו בלילה 10 נבחרו לייצוא. האם יש קשר בין היות מוצר לייצוא למועד שבו הוא יוצר? בדקו ברמת בטחון של 95%.

4) במטרה לבדוק האם השתנו דפוסי ההצבעה למפלגות השונות בין שבוע שעבר לשבוע נלקחו שני סקרים אחד מהשבוע שעבר והאחר מהשבוע. להלן דפוסי ההצבעה שהתקבלו בסקרים אלה.

- א. מהי רמת המובהקות המינימלית עבורה ניתן להחליט שהשתנו דפוסי ההצבעה משבוע שעבר לשבוע באופן מובהק?
- ב. כיצד הייתה התשובה לסעיף א משתנה אם כל השכיחויות בטבלה של תוצאות המדגם היו מוכפלות פי 2?
- ג. בנו רווח סמך לשיעור המצביעים למפלגה א השבוע ברמת סמך של 95%.

שבוע שעבר	מפלגה א	מפלגה ב	מפלגות אחרות	סה"כ
השבוע	143		253	550
סה"כ	243	314		1050

- (5) סטודנט קיבל בבדיקת השערות ערך  $\chi^2$  (chi-square) השוו לאפס. הסטודנט הסיק כי לא קיימת תלות בין שני המשתנים שבדק, בכל רמת מובהקות. נכון / לא נכון? נמקו.

- (6) להלן טבלת O של שני משתנים שהתקבל במדגם כלשהו :

$f(x)$	$Y_4$	$Y_3$	$Y_2$	$Y_1$	
200					$X_1$
200					$X_2$
	160	120	60	60	$f(y)$

- מה צריכות להיות השכיחויות בתוך הטבלה כדי שמובהקות התוצאה (PV) תהיה 100%?

### תשובות סופיות

- (1) נסיק שיש קשר בין גודל הארגון לשביעות הרצון של העובדים.  
 (2) נסיק שאין הבדל מובהק בין שיעור הפגומים במשמרות השונות.  
 (3) נסיק שאין קשר בין היות מוצא לייצוא למועד שבו הוא יוצר.  
 (4) א. 10% ב. קטן ג. (0.223,0.297)  
 (5) נכון  
 (6) להלן טבלה :

$f(x)$	$Y_4$	$Y_3$	$Y_2$	$Y_1$	
200	80	60	30	30	$X_1$
200	-8	60	30	30	$X_2$
400	160	120	60	60	$f(y)$

## פלטים על מבחן לאי תלות – רקע

מבחן לאי תלות מטרתו לבדוק האם קיים קשר בין שני משתנים. שני המשתנים שנבדקים צריכים להיות מחולקים למספר קטגוריות.

**מבנה המבחן:**

**השערות:**

$H_0$ : אין תלות בין המשתנים.

$H_1$ : יש תלות בין המשתנים.

דרגות חופש:  $d.f = (r-1)(c-1)$ .

$r$ : מספר הקטגוריות של המשתנה שבשורות.

$c$ : מספר הקטגוריות של המשתנה שבעמודות.

$$\chi^2 = \sum_{i=1}^k \frac{(O_i - E_i)^2}{E_i} : \text{סטטיסטי המבחן}$$

$O_i$  - השכיחות נצפית במדגם בתא  $i$ .

$E_i$  - שכיחות צפויה במדגם בתא  $i$  בהנחת השערת האפס.

$$E_i = \frac{f(x) \cdot f(y)}{n}$$

**הערה:**

תנאי כדי לבצע את המבחן הוא  $E_i \geq 5$  לכל  $i$ . במידה ותנאי זה לא מתקיים יש

אפשרות לאחד קטגוריות סמוכות עד שהתנאי יתקיים.

תנאי חלופי: אין  $E$  קטן מ-1 וגם אין ביותר מ-20% מהתאים  $E$  קטן מ-5.

**דוגמה (פתרון בהקלטה) :**

במחקר רצו לבדוק את הקשר בין צבע שיער לבין צבע עיניים של אנשים. הפלטים שהתקבלו מצורפים.

- א. מהו המבחן הסטטיסטי המתאים?
- ב. כמה קטגוריות יש לכל משתנה?
- ג. רשמו את השערות המחקר.
- ד. מה מספר דרגות החופש?
- ה. כמה אנשים במדגם נמצאו עם שיער חום?
- ו. כמה אנשים היית מצפה במדגם שיהיה להם שיער חום ועיניים ירוקות בהנחה ואין קשר בין צבע שיער לצבע עיניים?
- ז. מתוך הבלונדינים מה אחוז בעלי עיניים כחולות במדגם?
- ח. מתוך בעלי עיניים ירוקות מה אחוז הבלונדינים במדגם?
- ט. מה ערכו של סטטיסטי המבחן ומהי מובהקות התוצאה?
- י. מה מסקנת המחקר?  $\alpha = 5\%$

להלן הפלטים שהתקבלו :

## Case Processing Summary

	Cases					
	Valid		Missing		Total	
	N	Percent	N	Percent	N	Percent
hair_color * eye_color	78	100.0%	0	0.0%	78	100.0%

## hair\_color \* eye\_color Crosstabulation

		eye_color			Total	
		brown	green	Blue		
hair_color	black	Count	13	7	7	27
		Expected Count	10.7	8.3	8.0	27.0
		% within hair_color	48.1%	25.9%	25.9%	100.0%
		% within eye_color	41.9%	29.2%	30.4%	34.6%
	brown	Count	12	12	6	30
		Expected Count	11.9	9.2	8.8	30.0
		% within hair_color	40.0%	40.0%	20.0%	100.0%
		% within eye_color	38.7%	50.0%	26.1%	38.5%
	blond	Count	6	5	10	21
		Expected Count	8.3	6.5	6.2	21.0
		% within hair_color	28.6%	23.8%	47.6%	100.0%
		% within eye_color	19.4%	20.8%	43.5%	26.9%
Total	Count	31	24	23	78	
	Expected Count	31.0	24.0	23.0	78.0	
	% within hair_color	39.7%	30.8%	29.5%	100.0%	
	% within eye_color	100.0%	100.0%	100.0%	100.0%	

## Chi-Square Tests

	Value	df	Asymp. Sig. (2-sided)
Pearson Chi-Square	5.880 <sup>a</sup>	4	.208
Likelihood Ratio	5.641	4	.228
Linear-by-Linear Association	2.682	1	.101
N of Valid Cases	78		

a. 0 cells (0.0%) have expected count less than 5. The minimum expected count is 6.19.

**שאלות**

- 1) בסקר שנעשה על ידי משרד ראש הממשלה נדגמו 60 אזרחים. כל אזרח נשאל על מגדרו והאם הוא בעד הקמת מדינה פלסטינית.
- א. מה ההשערות הנבדקות ומהו סטטיסטי המבחן?
  - ב. אם סטטיסטי המבחן היה גדל כיצד הדבר היה משפיע על SIG שבפלט.
  - ג. האם קיים קשר בין מגדר ודעה ברמת מובהקות של 5%?
  - ד. מהו האומדן לאחוז התומכים במדינה פלסטינית מתוך הגברים?
  - ה. איזה אחוז מהנשאלים שהיו בעד מדינה פלסטינית הם גברים?

להלן הפלטים:

### Chi-Square Tests

	Value	df	Asymp. Sig. (2-sided)
Pearson Chi-Square	1.973 <sup>a</sup>	2	.373
Likelihood Ratio	1.987	2	.370
Linear-by-Linear Association	1.882	1	.170
N of Valid Cases	60		

a. 0 cells (.0%) have expected count less than 5.

b. The minimum expected count is 7.25.

### gender \* opinion Crosstabulation

		opinion			Total	
		yes	now	no opinion		
gender	Male	Count	10	10	9	29
		Expected Count	12.6	9.2	7.3	29.0
		% within gender	34.5%	34.5%	31.0%	100.0%
		% within opinion	38.5%	52.6%	60.0%	48.3%
		% of Total	16.7%	16.7%	15.0%	48.3%
female		Count	16	9	6	31
		Expected Count	13.4	9.8	7.8	31.0
		% within gender	51.6%	29.0%	19.4%	100.0%
		% within opinion	61.5%	47.4%	40.0%	51.7%
		% of Total	26.7%	15.0%	10.0%	51.7%
Total		Count	26	19	15	60
		Expected Count	26.0	19.0	15.0	60.0
		% within gender	43.3%	31.7%	25.0%	100.0%
		% within opinion	100.0%	100.0%	100.0%	100.0%
		% of Total	43.3%	31.7%	25.0%	100.0%

2) להלן פלט על סמך סקר שנעשה בקרב סטודנטים, בסקר נשאלו הסטודנטים על המוזיקה אותה הם מעדיפים וצורת הבילוי המועדפת עליהם.

Crosstab

Count		בילוי			Total
		קריאה	ספורט	מועדון	
מוזיקה	רוק	0	0	11	11
	פופ	1	6	8	15
	קלאסי	5	6	9	20
Total		6	12	28	46

Chi-Square Tests

	Value	df	Asymp. Sig. (2-sided)
Pearson Chi-Square	11.929 <sup>a</sup>	?	.018
N of Valid Cases	46		

a. 5 cells (55.6%) have expected count less than 5.

b. The minimum expected count is 1.43.

- א. בין אלו משתנים נבדק הקשר? כמה קטגוריות לכל משתנה?
- ב. האם התנאים של המודל מתקיימים?
- ג. מה מספר דרגות החופש במבחן הני"ל?
- ד. מה ההשערות של המבחן?

- 3) מחקר התעניין לבדוק את הקשר בין רמת הכנסה של משפחה לבין צריכת עגבניות אורגניות. הפלטים מצורפים.
- א. השלימו את שלושת המספרים החסרים בטבלה (היכן שיש סימני שאלה).
- ב. מה ערכו של חי בריבוע הסטטיסטי.
- ג. תנו הערכה למובהקות התוצאה לבדיקת הקשר בין רמת הכנסה של משפחה לבין צריכת עגבניות אורגניות.

Crosstabulation רמת\_הכנסה \* צרכן עגבניות

		צרכן עגבניות		Total
		אורגני	לא אורגני	
הרבה מתחת לממוצע רמת_הכנסה	Count	17	42	59
	% within רמת_הכנסה	28.8%	?	100.0%
	% within צרכן עגבניות	13.6%	33.6%	23.6%
מתחת לממוצע	Count	27	22	49
	% within רמת_הכנסה	55.1%	44.9%	100.0%
	% within צרכן עגבניות	?	17.6%	19.6%
ממוצע	Count	31	29	60
	% within רמת_הכנסה	51.7%	48.3%	100.0%
	% within צרכן עגבניות	24.8%	23.2%	24.0%
מעל הממוצע	Count	44	26	70
	% within רמת_הכנסה	62.9%	37.1%	100.0%
	% within צרכן עגבניות	35.2%	20.8%	28.0%
הרבה מעל הממוצע	Count	?	6	12
	% within רמת_הכנסה	50.0%	50.0%	100.0%
	% within צרכן עגבניות	4.8%	4.8%	4.8%
Total	Count	125	125	250

- 4) חוקר בדק את הקשר בין צבע השיער לבין צבע העיניים בעזרת מבחן חי בריבוע בקרב 52 נבדקים. תוצאות המבחן מוצגות בטבלה. בנוסף ידוע כי סטטיסטי המבחן שהתקבל מעיבוד הנתונים הוא 8.08.
- מה תהיה מסקנת המחקר ברמת מובהקות של 1%?
  - מה ערכו של E עבור עיניים כחולות וצבע שיער כהה.
  - מה יהיה בקירוב ערכו של מקדם המתאם של קרמר?
  - מהי פרופורציית בעלי צבע השיער הבהיר מקרב בעלי העיניים הירוקות?

להלן הפלט:

Crosstabulation צבע עיניים \* צבע שיער

		צבע שיער		Total	
		כהה	בהיר		
צבע עיניים	כחול	Count			
		% within	50.0%	50.0%	100.0%
		% within	21.6%	53.3%	30.8%
		% of Total	15.4%	15.4%	30.8%
חום		Count			
		% within	83.3%	16.7%	100.0%
		% within	27.0%	13.3%	23.1%
		% of Total	19.2%	3.8%	23.1%
ירוק		Count			
		% within	79.2%	20.8%	100.0%
		% within	51.4%	33.3%	46.2%
		% of Total	36.5%	9.6%	46.2%
Total		Count			
		% within	71.2%	28.8%	100.0%
		% within	100.0%	100.0%	100.0%
		% of Total	71.2%	28.8%	100.0%

- 5) במחקר מסוים רצו לבדוק האם יש קשר בין המגדר להוצאה על לבוש במשך שנה. דגמו באופן מקרי גברים ונשים ובדקו את רמת ההוצאה שלהם על לבוש בשנה האחרונה. חוקר א' בדק האם קיים הבדל בתוחלות ההוצאה בין גברים לנשים. חוקר ב' קיבץ את ההוצאה לקטגוריות ובאופן הזה בדק האם קיים הבדל בהתפלגות ההוצאה בין גברים לנשים. הקטגוריות חולקו לשלוש קבוצות הוצאה.
- איזה פלט מתאים לאיזה אחד מהחוקרים? נמקו.
  - מה מסקנתו של חוקר א'? בדקו ברמת מובהקות  $\alpha = 0.05$ . (רשמו השערות, נסחו הנחות, ציינו כלל החלטה ותנו מסקנה במונחי המשתנים).
  - איזו טעות יכולה להיות במסקנתו של חוקר א'? נסחו את הטעות במונחי השאלה.
  - מהי מסקנתו של חוקר ב'? בדקו ברמת מובהקות  $\alpha = 0.05$ . (רשמו השערות, נסחו הנחות, ציינו כלל החלטה ורשמו מסקנה במונחי המשתנים).
  - איזו טעות יכולה להיות במסקנתו של חוקר ב'? נסחו זאת במונחי השאלה.
  - כיצד ניתן ליישב את מסקנות שני החוקרים?

להלן פלט ראשון:

### T-Test

#### Group Statistics

gender	N	Mean	Std. Deviation	Std. Error Mean
female	40	2.9000	1.15025	.18187
male	40	2.6000	2.52982	.40000
dimensio n1				

#### Independent Samples Test

	Levene's Test for Equality of Variances	t-test for Equality of Means								
		F	Sig.	t	df	Sig. (2-tailed)	Mean Difference	Std. Error Difference	95% Confidence Interval of the Difference	
									Lower	Upper
expose	Equal variances assumed	16.805	.000	.683	78	.497	.30000	.43941	-.57479	1.17479
	Equal variances not assumed			.683	54.464	.498	.30000	.43941	-.58078	1.18078

להלן פלט שני:

## Crosstabs

## Case Processing Summary

	Cases					
	Valid		Missing		Total	
	N	Percent	N	Percent	N	Percent
gender * category	80	100.0%	0	.0%	80	100.0%

## gender \* category Crosstabulation

			category			Total
			a	b	c	
gender	Female	Count	2	30	8	40
		Expected Count	11.0	21.0	8.0	40.0
		% within gender	5.0%	75.0%	20.0%	100.0%
		% within category	9.1%	71.4%	50.0%	50.0%
	Male	Count	20	12	8	40
		Expected Count	11.0	21.0	8.0	40.0
		% within gender	50.0%	30.0%	20.0%	100.0%
		% within category	90.9%	28.6%	50.0%	50.0%
Total		Count	22	42	16	80
		Expected Count	22.0	42.0	16.0	80.0
		% within gender	27.5%	52.5%	20.0%	100.0%
		% within category	100.0%	100.0%	100.0%	100.0%

## Chi-Square Tests

	Value	df	Asymp. Sig. (2-sided)
Pearson Chi-Square	22.442 <sup>a</sup>	2	.000
Likelihood Ratio	25.064	2	.000
N of Valid Cases	80		

a. 0 cells (.0%) have expected count less than 5. The minimum expected count is 8.00.

## תשובות סופיות

- (1) א. 1.973      ב. קטן .      ג. לא נדחה  $H_0$  .  
 ד. 34.5%      ה. 38.5%
- (2) א. בילוי מועדף ומוזיקה מועדפת עם 3 קטגוריות לכל משתנה.  
 ב. לא      ג. 4.  
 ד.  $H_0$  אין תלות בין בילוי מועדף למוזיקה מועדפת.  
 $H_1$  יש תלות בין בילוי מועדף למוזיקה מועדפת.
- (3) א. 6, 21.6%, 71.2%      ב. 15.8      ג. קטן מ-0.005.
- (4) א. לא נדחה  $H_0$  .      ב. 11.4      ג. 0.394  
 ד. 20.8%
- (5) א. פלא א' - חוקר א', פלא ב' - חוקר ב'.      ב. נקבל את  $H_0$  .  
 ג. טעות מסוג שני- הכרענו שאין הבדל בין גברים לנשים למרות שיש במציאות הבדל.  
 ד. נקבל את  $H_1$  .  
 ה. טעות מסוג ראשון- הכרענו שיש קשר בין מין להוצאה למרות שבמציאות אין קשר.  
 ו. כל חוקר פעל בשיטה סטטיסטית שונה ובמצב כזה יתכן מסקנות סותרות.