

# סטטיסטיקה ב



$$\{\sqrt{x}\}^2$$



## תוכן העניינים

1	ההתפלגות נורמלית
8	התפלגות הדגימה ומשפט הגבול המרכזי
19	הסקה סטטיסטית - הקדמה
22	מושגי יסוד באמידה
27	רווח סמך לתוחלת (ממוצע)
37	רווח סמך לפרופורציה
43	רווח סמך להפרש תוחלות (ממוצעים) במדגמים בלתי תלויים
45	רווח סמך לתוחלת (ממוצע) ההפרשים במדגמים מזווגים
47	שאלות מסכמות על רווחי סמך
49	מבוא לבדיקת השערות על פרמטרים
55	בדיקת השערות על תוחלת (ממוצע)
82	בדיקת השערות על פרופורציה
95	בדיקת השערות על הפרש תוחלות במדגמים בלתי תלויים
99	בדיקת השערות לתוחלת ההפרש במדגמים מזווגים
103	הקשר בין רווח סמך לבדיקת השערות להפרש תוחלות
106	שאלות מסכמות בבדיקת השערות
109	ניתוח שונות חד כיוונית
118	מקדם המתאם (מדד קשר) הלינארי ומובהקותו
141	רגרסיה
144	מדדי קשר-רגרסיה - שונות מוסברת ושונות לא מוסברת

# סטטיסטיקה ב

פרק 1 - ההתפלגות נורמלית

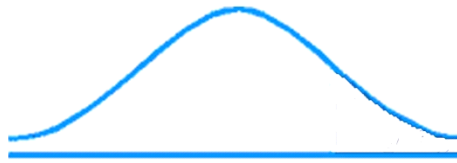
תוכן העניינים

1. כללי ..... 1

## התפלגויות רציפות מיוחדות – התפלגות נורמלית:

### רקע:

התפלגות נורמלית הינה התפלגות של משתנה רציף. ישנם משתנים רציפים מסוימים שנהוג להתייחס אליהם כנורמליים כגון: זמן ייצור, משקל תינוק ביום היוולדו ועוד. פונקציית הצפיפות של ההתפלגות הנורמלית נראית כמו פעמון:



לעקומה זו קוראים גם עקומת גאוס ועקומה אחת נבדלת מהשנייה באמצעות הממוצע וסטיית התקן שלה.

אלה הם הפרמטרים שמאפיינים את ההתפלגות:  $X \sim N(\mu, \sigma^2)$ .

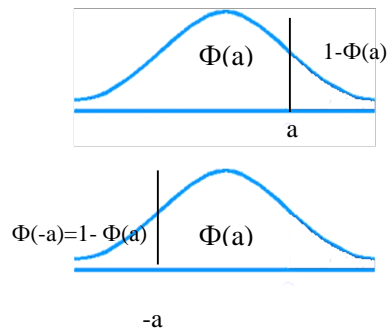
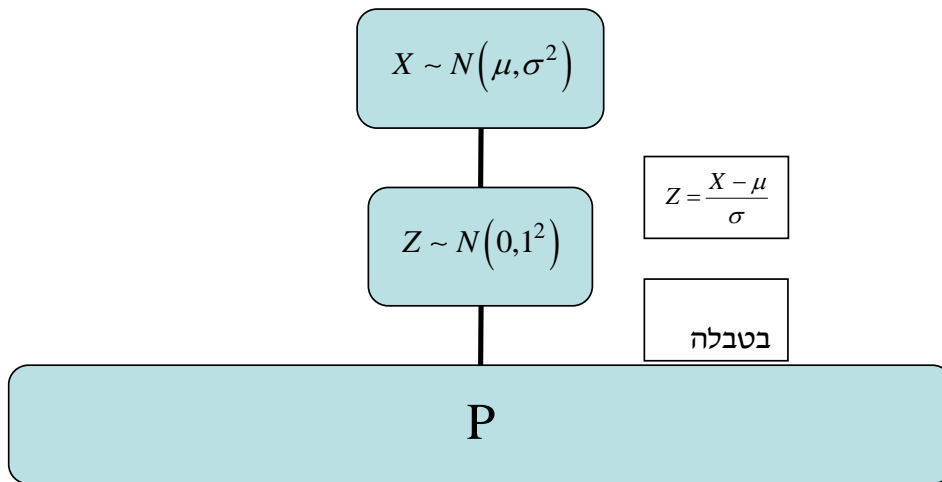
$$\text{נוסחת פונקציית הצפיפות: } f(x) = \frac{1}{\sqrt{2\pi\sigma^2}} e^{-\frac{(x-\mu)^2}{2\sigma^2}}$$

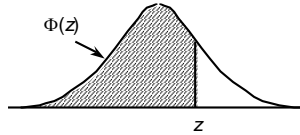
כדי לחשב הסתברויות בהתפלגות נורמלית יש לחשב את השטחים הרלוונטיים שמתחת לעקומה. כדי לחשב שטחים אלה נמיר כל התפלגות נורמלית להתפלגות נורמלית סטנדרטית על ידי תהליך הנקרא תקנון. התפלגות נורמלית סטנדרטית היא התפלגות נורמלית שהממוצע שלה הוא אפס וסטיית התקן היא אחת, והיא תסומן באות  $Z$ :  $Z \sim N(0, 1^2)$ .

$$\text{תהליך התקנון מבוצע על ידי הנוסחה הבאה: } Z = \frac{X - \mu}{\sigma}$$

אחרי תקנון מקבלים ערך הנקרא ציון תקן. ציון התקן משמעו בכמה סטיות תקן הערך סוטה מהממוצע.

לאחר חישוב ציון התקן של ערך מסוים נעזרים בטבלה של ההתפלגות הנורמלית הסטנדרטית לחישוב השטח הרצוי, ובאופן כללי נתאר את הסכמה הבאה:



**טבלת ההתפלגות המצטברת הנורמלית סטנדרטית – ערכי  $\Phi(z)$  :**


z	.00	.01	.02	.03	.04	.05	.06	.07	.08	.09
0.0	.5000	.5040	.5080	.5120	.5160	.5199	.5239	.5279	.5319	.5359
0.1	.5398	.5438	.5478	.5517	.5557	.5596	.5636	.5675	.5714	.5753
0.2	.5793	.5832	.5871	.5910	.5948	.5987	.6026	.6064	.6103	.6141
0.3	.6179	.6217	.6255	.6293	.6331	.6368	.6406	.6443	.6480	.6517
0.4	.6554	.6591	.6628	.6664	.6700	.6736	.6772	.6808	.6844	.6879
0.5	.6915	.6950	.6985	.7019	.7054	.7088	.7123	.7157	.7190	.7224
0.6	.7257	.7291	.7324	.7357	.7389	.7422	.7454	.7486	.7517	.7549
0.7	.7580	.7611	.7642	.7673	.7704	.7734	.7764	.7794	.7823	.7852
0.8	.7881	.7910	.7939	.7967	.7995	.8023	.8051	.8078	.8106	.8133
0.9	.8159	.8186	.8212	.8238	.8264	.8289	.8315	.8340	.8365	.8389
1.0	.8413	.8438	.8461	.8485	.8508	.8531	.8554	.8577	.8599	.8621
1.1	.8643	.8665	.8686	.8708	.8729	.8749	.8770	.8790	.8810	.8830
1.2	.8849	.8869	.8888	.8907	.8925	.8944	.8962	.8980	.8997	.9015
1.3	.9032	.9049	.9066	.9082	.9099	.9115	.9131	.9147	.9162	.9177
1.4	.9192	.9207	.9222	.9236	.9251	.9265	.9279	.9292	.9306	.9319
1.5	.9332	.9345	.9357	.9370	.9382	.9394	.9406	.9418	.9429	.9441
1.6	.9452	.9463	.9474	.9484	.9495	.9505	.9515	.9525	.9535	.9545
1.7	.9554	.9564	.9573	.9582	.9591	.9599	.9608	.9616	.9625	.9633
1.8	.9641	.9649	.9656	.9664	.9671	.9678	.9686	.9693	.9699	.9706
1.9	.9713	.9719	.9726	.9732	.9738	.9744	.9750	.9756	.9761	.9767
2.0	.9772	.9778	.9783	.9788	.9793	.9798	.9803	.9808	.9812	.9817
2.1	.9821	.9826	.9830	.9834	.9838	.9842	.9846	.9850	.9854	.9857
2.2	.9861	.9864	.9868	.9871	.9875	.9878	.9881	.9884	.9887	.9890
2.3	.9893	.9896	.9898	.9901	.9904	.9906	.9909	.9911	.9913	.9916
2.4	.9918	.9920	.9922	.9925	.9927	.9929	.9931	.9932	.9934	.9936
2.5	.9938	.9940	.9941	.9943	.9945	.9946	.9948	.9949	.9951	.9952
2.6	.9953	.9955	.9956	.9957	.9959	.9960	.9961	.9962	.9963	.9964
2.7	.9965	.9966	.9967	.9968	.9969	.9970	.9971	.9972	.9973	.9974
2.8	.9974	.9975	.9976	.9977	.9977	.9978	.9979	.9979	.9980	.9981
2.9	.9981	.9982	.9982	.9983	.9984	.9984	.9985	.9985	.9986	.9986
3.0	.9987	.9987	.9987	.9988	.9988	.9989	.9989	.9989	.9990	.9990
3.1	.9990	.9991	.9991	.9991	.9992	.9992	.9992	.9992	.9993	.9993
3.2	.9993	.9993	.9994	.9994	.9994	.9994	.9994	.9995	.9995	.9995
3.3	.9995	.9995	.9995	.9996	.9996	.9996	.9996	.9996	.9996	.9997
3.4	.9997	.9997	.9997	.9997	.9997	.9997	.9997	.9997	.9997	.9998

z	1.282	1.645	1.960	2.326	2.576	3.090	3.291	3.891	4.417
$\Phi(z)$	0.90	0.95	0.975	0.99	0.995	0.999	0.9995	0.99995	0.999995

דוגמה (הפתרון בהקלטה):

משקל חפיסות שוקולד המיוצרות בחברה מתפלג נורמלית עם ממוצע 100 גרם בסטיית תקן של 8 גרם.

- (1) מה אחוז חפיסות השוקולד ששוקלות מתחת ל-110 גרם?
- (2) מה אחוז חפיסות השוקולד ששוקלות מעל 110 גרם?
- (3) מה אחוז חפיסות השוקולד ששוקלות מתחת ל-92 גרם?
- (4) מהו המשקל ש-90% מהחפיסות בקו הייצור שוקלים פחות מהם?

## שאלות:

- (1) הגובה של אנשים באוכלוסייה מסוימת מתפלג נורמלית עם ממוצע של 170 ס"מ וסטית תקן של 10 ס"מ.
- מה אחוז האנשים שגובהם מתחת ל-182.4 ס"מ?
  - מה אחוז האנשים שגובהם מעל 190 ס"מ?
  - מה אחוז האנשים שגובהם בדיוק 173.6 ס"מ?
  - מה אחוז האנשים שגובהם מתחת ל-170 ס"מ?
  - מה אחוז האנשים שגובהם לכל היותר 170 ס"מ?
- (2) נתון שהזמן שלוקח לתרופה מסוימת להשפיע מתפלג נורמלית עם ממוצע של 30 דקות ושונות של 9 דקות רבועות.
- מהי פרופורציית המקרים בהן התרופה תעזור אחרי יותר משעה?
  - מה אחוז מהמקרים שבהן התרופה תעזור בין 35 ל-37 דקות?
  - מה הסיכוי שהתרופה תעזור בדיוק תוך 36 דקות?
  - מה שיעור המקרים שבהן ההשפעה של התרופה תסטה מ-30 דקות בפחות מ-3 דקות?
- (3) המשקל של אנשים באוכלוסייה מסוימת מתפלג נורמלית עם ממוצע של 60 ק"ג וסטית תקן של 8 ק"ג.
- מה אחוז האנשים שמשקלם נמוך מ-55 ק"ג?
  - מהי פרופורציית האנשים באוכלוסייה שמשקלם לפחות 50 ק"ג?
  - מהי השכיחות היחסית של האנשים באוכלוסייה שמשקלם בין 60 ל-70 ק"ג?
  - לאיזה חלק מהאוכלוסייה משקל הסוטה מהמשקל הממוצע בלא יותר מ-4 ק"ג?
  - מה הסיכוי שאדם אקראי ישקול מתחת ל-140 ק"ג?
- (4) משקל תינוקות ביום היוולדם מתפלג נורמלית עם ממוצע של 3300 גרם וסטית תקן 400 גרם.
- מצאו את העשירון העליון.
  - מצאו את האחוזון ה-95.
  - מצאו את העשירון התחתון.

- (5) ציוני מבחן אינטליגנציה מתפלגים נורמלית עם ממוצע 100 ושונויות 225.
- מה העשירון העליון של הציונים במבחן האינטליגנציה?
  - מה העשירון התחתון של ההתפלגות?
  - מהו הציון ש-20% מהנבחנים מקבלים מעליו?
  - מהו האחוזון ה-20?
  - מהו הציון ש-5% מהנבחנים מקבלים מתחתיו?
- (6) נפח משקה בבקבוק מתפלג נורמלית עם סטיית תקן של 20 מ"ל, ונתון ש-33% מהבקבוקים בעלי נפח שעולה על 508.8 מ"ל.
- מה ממוצע נפח משקה בבקבוק?
  - 5% מהבקבוקים המיוצרים עם הנפח הגבוה ביותר נשלחים לבדיקה, החל מאיזה נפח שולחים בקבוק לבדיקה?
  - 1% מהבקבוקים עם הנפח הקטן ביותר נתרמים לצדקה, מהו הנפח המקסימלי לצדקה?
- (7) אורך חיים של מכשיר מתפלג נורמלית. ידוע שמחצית מהמכשירים חיים פחות מ-500 שעות, כמו כן ידוע ש-67% מהמכשירים חיים פחות מ-544 שעות.
- מהו ממוצע אורך חיי מכשיר?
  - מהי סטית בתקן של אורך חיי מכשיר?
  - מה הסיכוי שמכשיר אקראי יחיה פחות מ-460 שעות?
  - מהו המאיון העליון של אורח חיי מכשיר?
  - 1% מהמכשירים בעלי אורך החיים הקצר ביותר נשלח למעבדה לבדיקה מעמיקה. מהו אורך החיים המקסימלי לשליחת מכשיר למעבדה?
- (8) להלן שלוש התפלגויות נורמליות של שלוש קבוצות שונות ששורטטו באותה מערכת צירים. ההתפלגויות מוספרו כדי להבדיל ביניהן.
- לאיזו התפלגות הממוצע הגבוה ביותר?
  - במה מבין המדדים הבאים התפלגות 1 ו-2 זהות?
    - בעשירון העליון.
    - בממוצע.
    - בשונויות.
  - לאיזו התפלגות סטיית התקן הקטנה ביותר?
    - 1.
    - 2.
    - 3.
    - אין לדעת.



- 9) הזמן שלוקח לאדם להגיע לעבודתו מתפלג נורמלית עם ממוצע של 40 דקות וסטית תקן של 5 דקות.
- א. מה ההסתברות שמשך הנסיעה של האדם לעבודתו יהיה לפחות שלושת רבעי השעה?
- ב. אדם יצא לעבודתו בשעה 08:10 מביתו. הוא צריך להגיע לעבודתו בשעה 09:00. מה הסיכוי שיאחר לעבודתו?
- ג. אם ידוע שזמן נסיעתו לעבודה היה יותר משלושת רבעי השעה. מה ההסתברות שזמן הנסיעה הכולל יהיה פחות מ-50 דקות?
- ד. מה הסיכוי שבשבוע (חמישה ימי עבודה) בדיוק פעם אחת יהיה זמן הנסיעה לפחות שלושת רבעי השעה?

### תשובות סופיות:

1	א. 89.25%	ב. 2.28%	ג. 0	ד. 50%	ה. 50%
2	א. 0%	ב. 3.76%	ג. 0%	ד. 68.26%	
3	א. 26.43%	ב. 89.44%	ג. 39.44%	ד. 0.383	
	ה. 100%				
4	א. 3812.8	ב. 3958	ג. 2787.2		
5	א. 119.2	ב. 80.8	ג. 112.6	ד. 87.4	ה. 75.3
6	א. 500	ב. 532.9	ג. 453.48		
7	א. 500	ב. 100	ג. 0.3446	ד. 733	
	ה. 267				
8	א. 3	ב. בממוצע.	ג. 1		
9	א. 0.1587	ב. 0.0228	ג. 0.8563	ד. 0.3975	

## סטטיסטיקה ב

פרק 2 - התפלגות הדגימה ומשפט הגבול המרכזי

תוכן העניינים

1. התפלגות ממוצע המדגם ומשפט הגבול המרכזי ..... 8
2. התפלגות פרופורציית ההצלחות במדגם ..... 15

## התפלגות ממוצע המדגם ומשפט הגבול המרכזי:

### רקע:

בפרק זה נדון בהתפלגות של ממוצע המדגם:  $\bar{x} = \frac{\sum x_i}{n}$

מכיוון שממדגם למדגם אנו יכולים לקבל ממוצע מדגם שונה, אזי ממוצע המדגם הוא משתנה מקרי ויש לו התפלגות.

גדלים המתארים התפלגות כלשהי או אוכלוסייה כלשהי נקראים פרמטרים.

להלן רשימה של פרמטרים החשובים לפרק זה:

ממוצע האוכלוסייה נסמן ב- $\mu$  (נקרא גם תוחלת).

שונות אוכלוסייה נסמן ב- $\sigma^2$ .

סטיית תקן של אוכלוסייה:  $\sigma$ .

### תכונות התפלגות:

ממוצע כל ממוצעי המדגם האפשריים שווה לממוצע האוכלוסייה:  $E(\bar{x}) = \mu_x = \mu$ .

שונות כל ממוצעי המדגם האפשריים שווה לשונות האוכלוסייה מחולק ב- $n$ .

תכונה זו נכונה רק במדגם מקרי:  $V(\bar{x}) = \sigma_x^2 = \frac{\sigma^2}{n}$ .

יש יחס הפוך בין גודל המדגם לבין שונות ממוצעי המדגם.

אם נוציא שורש לשונות נקבל סטיית תקן של ממוצע המדגם שנקראת גם

טעות תקן:  $\sigma(\bar{x}) = \sqrt{\frac{\sigma^2}{n}} = \frac{\sigma}{\sqrt{n}}$ .

### דוגמה (פתרון בהקלטה):

השכר הממוצע במשק הינו 9000 ₪ עם סטיית תקן של 4000. דגמו באקראי 25 עובדים.

א. מיהי אוכלוסיית המחקר? מהו המשתנה הנחקר?

ב. מהם הפרמטרים של האוכלוסייה?

ג. מה התוחלת ומהי סטיית התקן של ממוצע המדגם?

**דגימה מהתפלגות נורמאלית:**

אם נדגום מתוך אוכלוסייה שהמשתנה בה מתפלג נורמאלית עם ממוצע  $\mu$  ושוונות  $\sigma^2$ .

$$\bar{x} \sim N\left(\mu, \frac{\sigma^2}{n}\right), Z_{\bar{x}} = \frac{\bar{x} - \mu}{\frac{\sigma}{\sqrt{n}}}$$

ממוצע המדגם גם יתפלג נורמאלית:

**דוגמה (פתרון בהקלטה):**

משקל תינוק ביום היוולדו מתפלג נורמאלית עם ממוצע 3400 גרם וסטיית תקן של 400 גרם.  
מה ההסתברות שבמדגם של 4 תינוקות אקראיים בעת הולדתם המשקל הממוצע של התינוקות יהיה מתחת ל-3.5 ק"ג?

**משפט הגבול המרכזי:**

אם אוכלוסייה מתפלגת כלשהו עם ממוצע  $\mu$  ושוונות  $\sigma^2$  אזי עבור מדגם מספיק

$$\bar{x} \rightsquigarrow N\left(\mu, \frac{\sigma^2}{n}\right) \text{ גדול } (n \geq 30) \text{ ממוצע המדגם מתפלג בקירוב נורמאלי:}$$

**דוגמה (פתרון בהקלטה):**

משקל חפיסת שוקולד בקו ייצור מתפלג עם ממוצע 100 גרם וסטיית תקן של 4 גרם.  
דגמו מקו הייצור 36 חפיסות שוקולד אקראיות.  
מה ההסתברות שהמשקל הממוצע של חפיסות השוקולד שנדגמו יהיה מתחת ל-102 גרם?

## שאלות:

- (1) מתוך כלל הסטודנטים במכללה שסיימו סטטיסטיקה א נדגמו שני סטודנטים. נתון שממוצע הציונים של כלל הסטודנטים היה 78 עם סטיית תקן של 15.
- מיהי האוכלוסייה?
  - מה המשתנה?
  - מהם הפרמטרים?
  - מהו גודל המדגם?
  - מהו תוחלת ממוצע המדגם?
  - מהי טעות התקן?

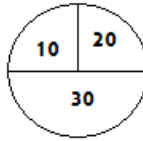
- (2) להלן התפלגות מספר מקלטי הטלוויזיה למשפחה ביישוב מסוים:

מספר משפחות	מספר מקלטים
500	0
2500	1
3500	2
3000	3
500	4
סך הכול $N = 10000$	

- בנו את פונקציית ההסתברות של  $X$ .
  - חשבו את התוחלת, השונות וסטיית התקן של  $X$ .
  - אם נדגום 4 משפחות מהישוב עם החזרה מה תהיה התוחלת, מהי השונות ומהי סטיית התקן של ממוצע המדגם?
- (3) אם נטיל קובייה פעמיים ונתבונן בממוצע התוצאות שיתקבלו, מה תהיה התוחלת ומה תהיה סטיית התקן של ממוצע זה?
- (4) משקל תינוק ביום היוולדו מתפלג נורמאלית עם ממוצע 3400 גרם וסטיית תקן של 400 גרם.
- מה ההסתברות שתינוק אקראי בעת הלידה ישקול פחות מ-3800 גרם? נתון כי ביום מסוים נולדו 4 תינוקות.
  - מה ההסתברות שהמשקל הממוצע שלהם יעלה על 4 ק"ג?
  - מה ההסתברות שהמשקל הממוצע של התינוקות יהיה מתחת ל-2.5 ק"ג?
  - מה ההסתברות שהמשקל הממוצע של התינוקות יהיה רחוק מהתוחלת בלא יותר מ-50 גרם?
  - הסבירו ללא חישוב כיצד התשובה לסעיף הקודם הייתה משתנה אם היה מדובר על יותר מ-4 תינוקות?

- (5) הגובה של המתגייסים לצה"ל מתפלג נורמאלית עם תוחלת של 175 ס"מ וסטיית תקן של 10 ס"מ. ביום מסוים התגייסו 16 חיילים.
- מה ההסתברות שהגובה הממוצע שלהם יהיה לפחות 190 ס"מ?
  - מה ההסתברות שהגובה הממוצע שלהם יהיה בדיוק 180 ס"מ?
  - מה ההסתברות שהגובה הממוצע שלהם יסטה מתוחלת הגבהים בפחות מ-5 ס"מ?
  - מהו הגובה שבהסתברות של 90% הגובה הממוצע של המדגם יהיה נמוך ממנו?
- (6) הזמן הממוצע שלוקח לאדם להגיע לעבודתו 30 דקות עם שונות של 16 דקות רבועות. האדם נוסע לעבודה במשך שבוע 5 פעמים.
- לצורך הפתרון הניחו שזמן הנסיעה לעבודה מתפלג נורמאלית.
- מה ההסתברות שבמשך שבוע משך הנסיעה הממוצע יהיה מעל 33 דקות?
  - מהו הזמן שבהסתברות של 90% ממוצע משך הנסיעה השבועי יהיה גבוה ממנו?
  - מה ההסתברות שממוצע משך הנסיעה השבועי יהיה מרוחק מ-30 דקות בלפחות 2 דקות?
  - כיצד התשובה לסעיף הקודם הייתה משתנה אם האדם היה נוסע לעבודה 6 פעמים בשבוע?
- (7) נפח היין בבקבוק מתפלג נורמאלית עם תוחלת של 750 סמ"ק וסטיית תקן של 10 סמ"ק.
- בארגו 4 בקבוקי יין. מה ההסתברות שהנפח הממוצע של הבקבוקים בארגו יהיה בדיוק 755 סמ"ק?
  - בארגו 4 בקבוקי יין. מה ההסתברות שהנפח הממוצע של הבקבוקים בארגו יהיה יותר מ-755 סמ"ק?
  - בארגו 4 בקבוקי יין. מה ההסתברות שהנפח הממוצע של הבקבוקים בארגו יהיה לפחות 755 סמ"ק?
  - בקבוקי היין שבארגו נמזגים לקערה עם קיבולת של שלושה ליטר. מה ההסתברות שהיין יגלוש מהקערה?
- (8) משתנה מתפלג נורמאלית עם תוחלת של 80 וסטיית תקן 4.
- מה ההסתברות שממוצע המדגם יסטה מתוחלתו בלא יותר מיחידה כאשר גודל המדגם הוא 9?
  - מה ההסתברות שממוצע המדגם יסטה מתוחלתו בלא יותר מיחידה שגודל המדגם הוא 16?
  - הסבר את ההבדל בתשובות של שני הסעיפים.

9) בקזינו ישנה רולטה. על הרולטה רשומים המס' הבאים כמוראה בשרטוט:



- אדם מסובב את הרולטה וזוכה בסכום הרשום על הרולטה.
- בנו את פונקציית ההסתברות של סכום הזכייה במשחק בודד.
  - מה התוחלת ומה השונות של סכום הזכייה?
  - אם האדם ישחק את המשחק 5 פעמים מה התוחלת ומה השונות של ממוצע סכום הזכייה בחמשת המשחקים?
  - אם האדם משחק את המשחק 50 פעם מה ההסתברות שבסה"כ יזכה ב-1050 ₪ ומעלה?

10) לפי הערכות הלשכה המרכזית לסטטיסטיקה השכר הממוצע במשק הוא 8000 ₪ עם סטיית תקן של 3000 ₪. מה ההסתברות שבמדגם מקרי של 100 עובדים השכר הממוצע יהיה יותר מ-8500 ₪?

11) קובייה הוטלה 50 פעמים. מה ההסתברות שהממוצע של התוצאות יהיה לפחות 3.72?

- 12) אורך צינור שמפעל מייצר הינו עם ממוצע של 70 ס"מ וסטיית תקן של 10 ס"מ.
- נלקחו באקראי 100 מוטות, מה ההסתברות שממוצע אורך המוטות יהיה בין 68 ל-78 ס"מ?
  - יש לחבר 2 בניינים באמצעות מוטות. המרחק בין שני הבניינים הינו 7200 ס"מ. מה ההסתברות ש-100 המוטות יספיקו למלאכה?
  - מה צריך להיות גודל המדגם המינימאלי, כדי שבהסתברות של 5% ממוצע המדגם יהיה קטן מ-69 ס"מ. היעזרו במשפט הגבול המרכזי.

13) נתון משתנה מקרי בדיד בעל פונקציית ההסתברות הבאה:

2	4	6	8	$X$
$\frac{1}{4}$	$\frac{1}{4}$	$\frac{1}{4}$	$\frac{1}{4}$	$P(X)$

מתוך התפלגות זו נלקח מדגם מקרי בגודל 50. מה הסיכוי שממוצע המדגם יהיה קטן מ-5?

14 נתון ש- $X \sim N(\mu, \sigma^2)$ . דגמו 5 תצפיות מאותה התפלגות והתבוננו במוצע

המדגם  $\bar{X}$  לכן:  $P(\bar{X} > \mu)$  יהיה (בחרו בתשובה הנכונה):

- א. 0.
- ב. 0.5.
- ג. 1.
- ד. לא ניתן לדעת.

15 נתון ש- $X$  מתפלג כלשהו עם תוחלת  $\mu$  ושונויות  $\sigma^2$ .

החליטו לבצע מדגם בגודל 200 מתוך ההפלגות הנתונה לפי משפט הגבול המרכזי מתקיים (בחרו בתשובה הנכונה):

א.  $X \sim N\left(\mu, \frac{\sigma^2}{200}\right)$ .

ב.  $\mu \sim N\left(\mu, \frac{\sigma^2}{200}\right)$ .

ג.  $\bar{X} \sim N(\mu, \sigma^2)$ .

ד.  $\bar{X} \sim N\left(\mu, \frac{\sigma^2}{200}\right)$ .

16 נתון ש- $X \sim N(\mu, \sigma^2)$ . אם נדגום  $n$  תצפיות מתוך ההתפלגות ונגדיר:  $\bar{X} = \frac{\sum_{i=1}^n X_i}{n}$ ,

אזי (בחרו בתשובה הנכונה):

- א.  $\mu$  ו- $\bar{X}$  יהיו משתנים מקריים.
- ב.  $\mu$  יהיה משתנה מקרי ו- $\bar{X}$  קבוע.
- ג.  $\bar{X}$  יהיה משתנה מקרי ו- $\mu$  קבוע.
- ד.  $\mu$  ו- $\bar{X}$  יהיו קבועים.

## תשובות סופיות:

- (1) א. כלל הסטודנטים במכללה שסיימו סטטיסטיקה א. ב. ציון.  
 ג. ממוצע: 78, סטיית תקן: 15.  
 ד. 2.  
 ה. 78.  
 ו. 10.6.

(2) א. להלן טבלה:

4	3	2	1	0	X
0.05	0.3	0.35	0.25	0.05	P(X)

ב.  $\sigma = 0.973$ ,  $\sigma^2 = 0.9475$ ,  $\mu = 2.05$

ג.  $\sigma(\bar{X}) = 0.486$ ,  $\sigma_{\bar{x}}^2 = 0.2369$ ,  $\mu_{\bar{x}} = 2.05$

(3)  $\sigma(\bar{X}) = 1.21$ ,  $\mu_{\bar{x}} = 3.5$

- (4) א. 0.8413      ב. 0.0013      ג. 0      ד. 0.1974
- (5) א. 0      ב. 0      ג. 0.9544      ד. 0.178.205
- (6) א. 0.0465      ב. 27.71      ג. 0.2628      ד. התשובה הייתה קטנה.
- (7) א. 0      ב. 0.1587      ג. 0.1587      ד. 0.5
- (8) א. 0.5468      ב. 0.6826
- (9) א. להלן טבלה:

30	20	10	X
0.5	0.25	0.25	P(X)

- א. התוחלת: 22.5, השונות: 68.75.
- ב. התוחלת: 22.5, השונות: 13.75.
- ג. התוחלת: 22.5, השונות: 13.75.
- ד. 0.8997
- (10) 0.0475
- (11) 0.1814
- (12) א. 0.9772      ב. 0.0228      ג. 0.271
- (13) 0.5
- (14) ב'
- (15) ד'
- (16) ג'

## התפלגות פרופורציית ההצלחות במדגם:

### רקע:

בפרק זה נדון בהתפלגות הדגימה של פרופורציית המדגם.  
 $Y$  - מספר ההצלחות במדגם (למשל, מספר המובטלים במדגם).

$$\hat{p} = \frac{Y}{n} \text{ - פרופורציית ההצלחות במדגם.}$$

למשל, שיעור המובטלים במדגם -  $n = 200$  :

מספר המובטלים :  $Y = 20$  .

$$\hat{p} = \frac{20}{200} = 0.1 \text{ : פרופורציית המובטלים במדגם}$$

נסמן ב- $p$  את שיעור ההצלחה באוכלוסייה וב- $q$  את שיעור הכישלונות באוכלוסייה.  
 נבצע מדגם מקרי (הנחה שהתצפיות בלתי תלויות זו בזו) ונתבונן בהתפלגות של פרופורציית המדגם.

### התוחלת, השונות וסטיית התקן של פרופורציית המדגם:

$$E(\hat{p}) = p, \quad V(\hat{p}) = \frac{pq}{n}$$

משפט הגבול המרכזי עבור הפרופורציה המדגמית:

$$\text{אם: } np \geq 5 \text{ \& } nq \geq 5, \text{ אזי: } \hat{p} \sim N\left(p, \frac{pq}{n}\right) \cdot Z_{\hat{p}} = \frac{\hat{p} - p}{\sqrt{\frac{pq}{n}}}$$

### הערות:

- התנאים לקרוב הנורמאלי הם נזילים, כלומר משתנים ממרצה אחד לשני.  
 התנאי שהצגתי כאן הוא הפופולרי ביותר:
  1.  $n \cdot p \geq 5$
  2.  $n \cdot (1 - p) \geq 5$
- ישנם מרצים שנותנים את התנאי המחמיר הבא:
  1.  $n \cdot p \geq 10$
  2.  $n \cdot (1 - p) \geq 10$
- וישנם מרצים המשתמשים בתנאי:  $(n \geq 30)$  .
- תאלצו לבדוק מהו התנאי שנתנו לכם בכיתה כדי לעבור לנורמלית.

- כיוון שפרופורציה אינה חייבת להיות מספר שלם בהכרח לא נהוג לבצע כאן תיקון רציפות.

### דוגמה (פתרון בהקלטה):

לפי נתוני משרד החינוך בעיר ירושלים ל-60% מתלמידי התיכון זכאים לתעודת בגרות. נדגמו 200 תלמידי תיכון.

- מה ההסתברות שהשכיחות היחסית ( $\hat{p}$ ) של הזכאים לבגרות במדגם תעלה על 60%?
- מה ההסתברות שפרופורציית הזכאים לבגרות במדגם תעלה על 70%?

## שאלות:

- (1) במדינה מסוימת 10% מכלל האוכלוסייה הינם מובטלים. נדגמו באקראי 140 אנשים מהמדינה.
- מה התוחלת ומהי השונות של פרופורציות המובטלים שנדגמו?
  - מה ההסתברות שבמדגם לפחות 10% יהיו מובטלים?
  - מה ההסתברות שלכל היותר 9% מהמדגם יהיו מובטלים?
- (2) נניח כי 30% מהאוכלוסייה תומכים בהצעת חוק מסוימת. אם נדגום מהאוכלוסייה 200 איש. חשבו את ההסתברויות הבאות:
- לפחות 35% יתמכו בהצעת החוק במדגם.
  - לכל היות 25% יתמכו בהצעת החוק במדגם.
  - יותר מ-27% יתמכו בהצעת החוק במדגם.
- (3) לפי נתוני משרד התקשורת 40% מהאוכלוסייה מחזיקים בטלפון נייד מסוג "סמארטפון". נדגמו 400 אנשים מהאוכלוסייה.
- מה ההסתברות שבמדגם לכל היותר ל-40% יש סמארטפון?
  - מה ההסתברות שבמדגם לרוב יש סמארטפון?
  - מה ההסתברות שפרופורציית בעלי הסמארטפון במדגם תסטה מהפרופורציה באוכלוסייה בלא יותר מ-4%?
  - כיצד התשובה לסעיף הקודם הייתה משתנה אם הינו מגדילים את גודל המדגם?
- (4) נתון כי 80% מבתי האב מחוברים לאינטרנט. נדגמו 400 בתי אב אקראיים.
- מה ההסתברות שלפחות 340 מהם מחוברים לאינטרנט?
  - מה ההסתברות שפרופורציית המחוברים לאינטרנט במדגם תסטה מהפרופורציה האמיתית ביותר מ-4%?
  - כמה בתי אב יש לדגום כדי שהסטייה בין הפרופורציה המדגמית לפרופורציה האמיתית לא תעלה על 3% בהסתברות של 90%?
  - מהו העשירון התחתון של התפלגות פרופורציית המדגם?
- (5) נתון שציוני פסיכומטרי מתפלגים נורמלית עם תוחלת 500 וסטיית תקן 100. ב"מועדון ה-700" נכללים נבחנים שמקבלים ציון מעל 700 בפסיכומטרי. מה הסיכוי שבמועד בו נבחנו 2000 נבחנים אקראיים יהיו לפחות 3% המשתייכים למועדון?

6 נתון ש- $X \sim B(n, p)$ , ונגדיר את המשתנה הבא:  $\hat{P} = \frac{X}{n}$ .

א. הוכיחו ש:  $E(\hat{P}) = p$ ,  $V(\hat{P}) = \frac{p(1-p)}{n}$ .

ב. מה  $p$  המביא את  $V(\hat{P})$  להיות במקסימום?

### תשובות סופיות:

- (1) א. התוחלת: 0.1, השונות: 0.00064. ב. 0.5. ג. 0.3446.
- (2) א. 0.0618. ב. 0.0618. ג. 0.8238.
- (3) א. 0.5. ב. 0. ג. 0.8968. ד. גדלה.
- (4) א. 0.0062. ב. 0.0456. ג. 0.481. ד. 0.77436.
- (5) 0.0154.
- (6) א. שאלת הוכחה. ב. 0.5.

# סטטיסטיקה ב

פרק 3 - הסקה סטטיסטית - הקדמה

תוכן העניינים

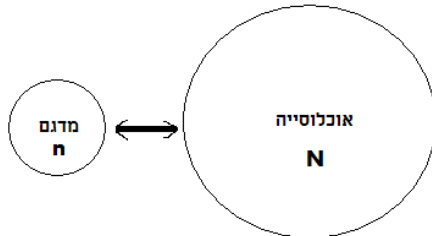
1. כללי ..... 19

## הסקה סטטיסטית – הקדמה:

### רקע:

#### אוכלוסייה:

קבוצה שאליה מפנים שאלה מחקרית. למשל, חברת תרופות שמעוניינת לפתח תרופה למחלת הסוכרת מתעניינת באוכלוסיית חולי הסוכרת בעולם.



#### מדגם:

חלק מתוך האוכלוסייה. למשל, אם נדגום באקראי 10 אנשים מתוך חולי הסוכרת אז זהו מדגם מתוך אוכלוסיית חולי הסוכרת.

במקרים רבים אין אפשרות לחקור את כל האוכלוסייה כיוון שאין גישה לכולה, היא גדולה מידי, או מוגבלים בזמן ובאמצעים טכניים ולכן מבצעים מדגם במטרה לבצע הסקה סטטיסטית מהמדגם לאוכלוסייה. הדגימה בקורס תהיה דגימה מקרית - הכוונה לדגימה שבה לכל תצפית באוכלוסייה יש את אותו סיכוי להיכלל במדגם.

#### סטטיסטי:

גודל המחושב על המדגם.

#### פרמטר:

גודל המתאר את האוכלוסייה.

### הסימונים לפרמטר וסטטיסטי הם שונים:

פרמטר (אוכלוסייה)	סטטיסטי (מדגם)	ממוצע
$\mu$	$\bar{X}$	
$P$	$\hat{p}$	פרופורציה (שכיחות יחסית)

פרמטר הוא גודל קבוע גם אם אנו לא יודעים אותו סטטיסטי הוא משתנה ממדגם למדגם ולכן יש לו התפלגות הנקראת התפלגות הדגימה.

### דוגמה (פתרון בהקלטה):

25% מאזרחי המדינה תומכים בהצעת החוק של חבר כנסת מסוים. הוחלט לדגום 200 אזרחים ומתוכם לבדוק מהו אחוז התומכים בהצעת החוק.

א. מי האוכלוסייה?

ב. מה המשתנה?

ג. מה הפרמטרים?

ד. מהו גודל המדגם?

ה. מהו הסטטיסטי שמתכננים להוציא מהמדגם?

ו. האם הפרמטר או הסטטיסטי הוא משתנה מקרי?

## שאלות:

- (1) מתוך כלל הסטודנטים במכללה שסיימו סטטיסטיקה א נדגמו שני סטודנטים. נתון שממוצע הציונים של כלל הסטודנטים היה 78 עם סטיית תקן של 15.
- מי האוכלוסייה?
  - מה המשתנה?
  - מהם הפרמטרים?
  - מהו גודל המדגם?
- (2) להלן התפלגות מספר מקלטי הטלוויזיה למשפחה בישוב "העוגן". נגדיר את  $X$  להיות מספר המקלטים של משפחה אקראית. מתכננים לדגום מאוכלוסייה זו 4 משפחות ולהתבונן בממוצע מספר מקלטי הטלוויזיה במדגם.
- מיהי האוכלוסייה ומהו המשתנה הנחקר?
  - מהו הסטטיסטי שיילקח מהמדגם ומה סימונו?

מספר מקלטים	מספר המשפחות
0	50
1	250
2	350
3	300
4	50
	סך הכול $N = 1000$

- (3) נתון כי 20% מהשכירים במדינה הם אקדמאיים. נבחרו באקראי 10 שכירים באותה אוכלוסייה ומתכננים לפרסם את מספר האקדמאיים שנדגמו.
- מיהי האוכלוסייה?
  - מה המשתנה באוכלוסייה?
  - מהם הפרמטרים?
  - מהו הסטטיסטי?

## תשובות סופיות:

- (1) א. כלל הסטודנטים במכללה שסיימו סטטיסטיקה א. ב. ציון. ג. ממוצע: 78, סטיית תקן: 15. ד. 2.
- (2) א. האוכלוסייה: 1000 משפחות בישוב העוגן, המשתנה הנחקר: מס' מקלטים. ב.  $\bar{X}$  = ממוצע מדגם.
- (3) א. השכירים במדינה. ב. השכלה: אקדמאי, לא אקדמאי. ג. שיעור ההצלחות באוכלוסייה: 0.2. ג. מס' האקדמאים במדגם.

# סטטיסטיקה ב

פרק 4 - מושגי יסוד באמידה

תוכן העניינים

22 ..... 1. כללי

## מושגי יסוד באמידה:

### רקע:

כזכור מהמפגש הקודם, פרמטר הוא גודל המתאר את האוכלוסייה או התפלגות מסוימת. כמו ממוצע הגבהים בקרב מתגייסים לצה"ל -  $\mu$ . כמו פרופורציית התומכים בממשלה בקרב אזרחי המדינה -  $p$ . בדרך כלל הפרמטרים הם גדלים שאינם ידועים באמת, ולכן מבצעים מדגמים במטרה לאמוד אותם. אין אפשרות לחשב אותם הניסיון הוא בלהעריך כמה הם שווים ככל שניתן.

- נסמן באופן כללי פרמטר באות  $\theta$  ואומד ב- $\hat{\theta}$ . הוא סטטיסטי המחושב על המדגם ובאמצעותו נאמוד את  $\theta$ .
- שגיאת אמידה:  $|\hat{\theta} - \theta|$  - ההפרש בין האומד לאמת (הפרמטר).

### דוגמה (פתרון בהקלטה):

בכנסת ה-19 קיבלה מפלגת העבודה 15 מנדטים. בערוץ 10 ברגע סגירת הקלפיות העריכו את מספר המנדטים של המפלגה להיות 17 מנדטים וזאת על סמך תוצאות מדגם של הערוץ.

- מה הפרמטר בדוגמה זו?
  - מהי טעות האמידה של ערוץ 10?
- $E(\hat{\theta}) = \theta$ : יהיה אומד חסר הטיה ל- $\theta$  אם התוחלת של  $\hat{\theta}$  תהיה שווה ל- $\theta$ .
  - טעות התקן של אומד היא סטיית התקן שלו, כלומר:  $\sigma(\hat{\theta}) = S.E$

**פרמטרים מרכזיים והאומדים שלהם:**

**ממוצע האוכלוסייה  $\mu$ :**

$$\bar{x} = \frac{\sum x}{n} : \text{האומד הנקודתי שלו יהיה: ממוצע המדגם}$$

$$E(\bar{x}) = \mu \text{ , לכן } \bar{x} \text{ הינו אומר חסר הטיה ל-} \mu \text{ . כמו כן, טעות תקן: } \sigma(\bar{x}) = \frac{\sigma}{\sqrt{n}} = SE$$

**פרופורציה באוכלוסייה  $p$ :**

$$\hat{p} = \frac{y}{n} : \text{האומד הנקודתי שלו יהיה: פרופורציה במדגם}$$

$$E(\hat{p}) = p \text{ , לכן } \hat{p} \text{ הינו אומר חסר הטיה ל-} p \text{ . כמו כן טעות התקן: } \sigma(\hat{p}) = \sqrt{\frac{p \cdot (1-p)}{n}}$$

**שונות האוכלוסייה  $\sigma^2$ :**

$$S^2 = \frac{\sum (x_i - \bar{x})^2}{n-1} : \text{האומד הנקודתי שלו יהיה}$$

$$E(S^2) = \sigma^2 \text{ ולכן } S^2 \text{ הינו אומד חסר הטיה ל-} \sigma^2 : S^2 = \frac{\sum (x_i - \bar{x})^2}{n-1} = \frac{\sum x_i^2 - n\bar{x}^2}{n-1}$$

**הערה:** אומד הוא הנוסחה הכללית לאמידת הפרמטר ואומדן הוא הערך הספציפי שהתקבל במדגם מסוים.

**דוגמה (פתרון בהקלטה):**

נדגמו 10 משפחות בתל אביב ונבדק עבור כל משפחה מספר הילדים שלה.  
 להלן התוצאות שהתקבלו: 2, 1, 3, 2, 1, 4, 5, 2, 1, 3.  
 אמדו באמצעות אומדים חסרי הטיה את הפרמטרים הבאים:

1. ממוצע מספר הילדים למשפחה בתל אביב.
2. שונות מספר הילדים למשפחה בתל אביב.
3. פרופורציית המשפחות בנות שני ילדים.

## שאלות:

- (1) מתוך 500 טירונים, נמצאו 120 בעלי שברי הליכה. נתון שהסיכוי שטירון יהיה עם שבר הליכה הוא 0.25.
- מהי האוכלוסייה המוצגת בשאלה? מהם הפרמטרים שלה?
  - מהי טעות התקן של האומדן כשהמדגם בגודל 500?
  - מהו האומדן לפרמטר?
  - מהי טעות האמידה?
- (2) לפי נתוני היצרן, מקרר צורך בממוצע 2400 וואט לשעה עם סטיית תקן של 500 וואט לשעה.
- במדגם של 25 מקררים של היצרן התקבל ממוצע של 2342 וואט לשעה.
- מהי האוכלוסייה המוצגת בשאלה? מהם הפרמטרים שלה?
  - מהי טעות התקן של האומדן?
  - מהו האומדן לפרמטר?
  - מהי טעות האמידה?
- (3) נדגמו עשרה מתגייסים לצה"ל. גובהם נמדד בס"מ. להלן התוצאות שהתקבלו: 168, 184, 192, 171, 180, 177, 187, 168, 177 ו-175.
- מצאו אומדן חסר הטיה לגובה הממוצע של מתגייסי צה"ל.
  - מצאו אומדן חסר הטיה לשונות הגבהים של מתגייסי צה"ל.
  - מצאו אומדן חסר הטיה לפרופורציות המתגייסים בגובה של לפחות 180 ס"מ.
- (4) נדגמו 20 שכירים באקראי. עבור כל שכיר נמדד השכר באלפי שקלים.
- להלן התוצאות שהתקבלו:  $\sum_{i=1}^{20} X_i = 162$ ,  $\sum_{i=1}^{20} X_i^2 = 1502.2$ .
- אמדו את השכר הממוצע של השכירים במשק.
  - אמדו את סטיית התקן של שכר השכירים במשק.
- (5) במטרה לאמוד את ממוצע האוכלוסייה, דגמו תצפיות בלתי תלויות מהאוכלוסייה וחישבו את הממוצע שלהם. מהי טעות התקן?
- סטיית התקן של האוכלוסייה.
  - סטיית התקן של ממוצע האוכלוסייה.
  - סטיית התקן של המדגם.
  - סטיית התקן של ממוצע המדגם.

6) משקל הממוצע של אוכלוסייה מסוימת הוא 75 ק"ג עם שונות של 25. אם יבחרו כל המדגמים האפשריים בגודל 10 מאוכלוסייה זו סטיית התקן של ממוצעי המדגמים תהייה:

א. 3.

ב. 2.5.

ג. 1.581.

ד. אין מספיק נתונים לדעת.

7) במדגם מקרי, מתי סכום ריבועי הסטיות מהממוצע,  $\sum_{i=1}^n (x_i - \bar{x})^2$ , מחולק ב- $n-1$ ?

א. כאשר  $n$  קטן.

ב. כאשר תצפיות המדגם אינן בלתי תלויות.

ג. כאשר האוכלוסייה אינה מתפלגת נורמאלית.

ד. כאשר מעוניינים באומד חסר הטיה לשונות האוכלוסייה ממנה הוצא המדגם.

ה. כאשר מעוניינים לחשב את שונות התפלגות הדגימה של ממוצע המדגם.

8)  $X_1, X_2, \dots, X_{16}$  מדגם מקרי מתוך אוכלוסייה בעלת ממוצע  $\mu$  לא ידוע

ושונות:  $\sigma^2 = 64$ . טעות התקן של האומד ל- $\mu$  היא:

א. 16.

ב. 8.

ג. 4.

ד. 2.

9) מהו אומד חסר הטיה?

א. אומד שערכו שווה לממוצע התפלגות הדגימה שלו.

ב. אומד שערכו שווה לערך הפרמטר באוכלוסייה.

ג. אומד שממוצע התפלגות הדגימה שלו שווה לערך הפרמטר באוכלוסייה.

ד. אומד שהסיכוי שערכו יהיה גבוה מערך הפרמטר באוכלוסייה שווה

לסיכוי שיהיה נמוך ממנו.

### תשובות סופיות:

- (1) א. 0.25    ב. 0.019    ג. 0.24    ד. 0.01
- (2) א. אוכלוסייה: מקררים של יצרן, תוחלת: 2400, סטיית תקן: 500.  
 ב. 100    ג. 2342    ד. 58
- (3) א. 177.9    ב. 64.1    ג. 0.4
- (4) א. 8.1    ב. 3.16
- (5) ד'
- (6) ג'
- (7) ד'
- (8) ד'
- (9) ג'

## סטטיסטיקה ב

פרק 5 - רווח סמך לתוחלת (ממוצע)

תוכן העניינים

- 27 ..... 1. רווח סמך כששונות האוכלוסיה ידועה
- 32 ..... 2. קביעת גודל מדגם
- 34 ..... 3. רווח סמך כששונות האוכלוסיה לא ידועה

## רווח סמך כששונות האוכלוסייה ידועה:

### רקע:

ממוצע המדגם הוא אומדן לממוצע האוכלוסייה, אך לא באמת ניתן להבין ממנו על גודלו של ממוצע האוכלוסייה. ההסתברות שממוצע המדגם יהיה בדיוק כמו הממוצע האמתי הוא אפסי.

מה שנהוג לעשות כדי לאמוד את ממוצע האוכלוסייה, זה לבנות רווח סמך.

נבנה מרווח בטחון שהסיכוי שהפרמטר  $\mu$  ייכלל בתוכו הוא:  $1-\alpha$ .

$1-\alpha$ : נקרא רמת בטחון או רמת סמך. כך ש:  $P(A \leq \mu \leq B) = 1-\alpha$ .

A - גבול התחתון של רווח הסמך.

B - הגבול העליון של רווח הסמך.

$L = B - A$  - אורך רווח הסמך.

### דוגמה (פתרון בהקלטה):

חוקר דגם 25 חיילים שנבחנו במבחן הפסיכומטרי. הוא בנה רווח סמך לממוצע הציונים במבחן הפסיכומטרי בקרב אוכלוסיית החיילים וקיבל בין 510 ל-590. רווח הסמך נבנה ברמת סמך של 95%.

1. מהי אוכלוסיית המחקר?

2. מה המשתנה באוכלוסייה?

3. מה הפרמטר שהחוקר רצה לאמוד?

4. מהו רווח הסמך?

5. מה אורך רווח הסמך?

6. מהי רמת הביטחון של רווח הסמך?

בפרק זה נרצה לבנות רווח סמך לתוחלת ( $\mu$ ) במקרה ש- $\sigma^2$  (שוונות האוכלוסייה) ידועה.

פרמטר אותו נרצה לאמוד:  $\mu$ .

אומד נקודתי:  $\bar{x}$ .

תנאים לבניית רווח הסמך:  $X \sim N$  או  $n \geq 30$ .

$\sigma^2$  (שוונות האוכלוסייה) ידועה.

נוסחה לרווח הסמך:  $\bar{x} \pm Z_{1-\frac{\alpha}{2}} \cdot \frac{\sigma}{\sqrt{n}}$

### דוגמה (פתרון בהקלטה):

על פי נתוני היצרן אורך חיי סוללה מתפלג נורמאלית עם סטיית תקן של 1 שעה. מעוניינים לאמוד את תוחלת חיי סוללה. נדגמו באקראי 4 סוללות, אורך החיים הממוצע שהתקבל הוא 13.5 שעות. בנו רווח סמך ברמת סמך של 95% לתוחלת אורך חיי סוללה.

שגיאת האמידה המקסימלית:  $\varepsilon = Z_{1-\frac{\alpha}{2}} \cdot \frac{\sigma}{\sqrt{n}}$

$\varepsilon$  - נותן את שגיאת האמידה המקסימלית, דבר שנקרא גם טעות סטטיסטית, טעות דגימה.

### דוגמה (פתרון בהקלטה):

בהמשך לשאלה עם הסוללות. מה ניתן להגיד בביטחון של 95% על שגיאת האמידה?

קשרים מתמטיים ברווח הסמך:

• אורך רווח הסמך הוא פעמיים שגיאת האמידה המקסימלית:  $L = 2\varepsilon$ .

• ממוצע המדגם נופל תמיד באמצע רווח הסמך:  $\bar{X} = \frac{A+B}{2}$ .

• ככל שמספר התצפיות ( $n$ ) גבוה יותר, כך יש יותר אינפורמציה ולכן האומד יותר מדויק, ולכן נקבל רווח סמך יותר קצר.

• ככל שרמת הביטחון ( $1-\alpha$ ) גבוהה יותר, כך:  $z_{1-\frac{\alpha}{2}}$  יותר גבוה, ורווח הסמך יותר ארוך.

## שאלות:

- 1) חוקר התעניין לאמוד את השכר הממוצע במשק. על סמך מדגם הוא קבע שבביטחון של 95% כי השכר הממוצע במשק נע בין 9200 ל-9800 ₪.
- מי האוכלוסייה במחקר?
  - מה המשתנה הנחקר?
  - מה הפרמטר שאותו רוצים לאמוד?
  - מה רווח הסמך לפרמטר?
  - מהי רמת הסמך לפרמטר?
  - מה אורך רווח הסמך?
  - מה הסיכוי שטעות הדגימה תעלה על 300 ₪?
- 2) מעוניינים לאמוד את התפוקה היומית הממוצעת של מפעל מסוים ברמת סמך של 95%. במדגם אקראי של 100 ימים התקבלה תפוקה ממוצעת 4950 מוצרים ביום. לצורך פתרון הנח שסטיית התקן האמתית ידועה ושווה 150 מוצרים ביום. בנו את רווח הסמך.
- 3) מעוניינים לאמוד את ממוצע אורך החיים של מכשיר. מנתוני היצרן ידוע שאורך החיים מתפלג נורמאלי עם סטיית תקן של 20 שעות. נדגמו 25 מכשירים ונמצא כי ממוצע אורך החיים שלהם היה 230 שעות.
- בנו רווח סמך ברמת סמך של 90% לאורך החיים הממוצע של מכשיר.
  - בנו רווח סמך ברמת סמך של 95% לאורך החיים הממוצע של מכשיר.
  - הסבירו כיצד ומדוע השתנה רווח הסמך.
- 4) דגמו 200 עובדים מהמשק הישראלי. השכר הממוצע שלהם היה 9700 ₪. נניח שסטיית התקן של השכר במשק היא 3000 ₪.
- בנו רווח סמך ברמת סמך של 95% לתוחלת השכר במשק.
  - מה ניתן לומר בביטחון של 95% על הסטייה המרבית בין ממוצע המדגם לתוחלת השכר?
  - מה היה צריך להיות גודל המדגם אם הינו רוצים להקטין את רווח הסמך ב-50%?
  - אם היינו מגדילים את גודל המדגם ובונים רווח סמך באותה רמת סמך האם היה ניתן לטעון בביטחון רב יותר שרווח הסמך מכיל את הפרמטר?

- (5) בנו רווח סמך לממוצע הציונים של מבחן אינטליגנציה. ידוע שסטיית התקן היא 15 והמדגם מתבסס על 100 תצפיות. רווח הסמך שהתקבל הוא (105,99). שחזרו את:
- ממוצע המדגם.
  - שגיאת האמידה המקסימאלית.
  - רמת הסמך.
- (6) זמן החלמה מאנגינה מתפלג עם סטיית תקן של יומיים. חברת תרופות מעוניינת לחקור אנטיביוטיקה חדשה שהיא פיתחה. במחקר השתתפו 60 אנשים שחלו באנגינה וקיבלו את האנטיביוטיקה החדשה. בממוצע הם החלימו לאחר 4 ימים.
- בנו רווח סמך לתוחלת זמן ההחלמה תחת האנטיביוטיקה החדשה ברמת סמך של 90%.
  - מה היה קורה לאורך רווח הסמך אם היה תקציב להגדלת גודל המדגם פי 4? הסבירו.
  - מה היה קורה לאורך רווח הסמך אם היינו בונים את רווח הסמך ברמת סמך גדולה יותר? הסבירו.
- (7) חוקר בנה רווח סמך לממוצע וקיבל את רווח הסמך הבא:  $82 < \mu < 92$ . נתון שסטיית התקן בהתפלגות שווה ל-10 ושהמדגם מתבסס על 16 תצפיות. התפלגות המשתנה היא נורמאלית.
- מהו ממוצע המדגם?
  - מהי רמת הסמך של רווח הסמך שנבנה?
  - מה הסיכוי ששגיאת האמידה באמידת ממוצע האוכלוסייה תעלה על 5?
- (8) חוקר בנה רווח סמך לתוחלת כאשר השונות בהתפלגות ידועה ברמת סמך של 95%. אם החוקר כעת יבנה על סמך אותם נתונים רווח סמך ברמת סמך קטנה מ-95%, איזה מהמשפטים הבאים לא יהיה נכון.
- אורך רווח הסמך החדש יהיה קטן יותר.
  - גודל המדגם יהיה כעת קטן יותר.
  - המרחק בין ממוצע המדגם לקצות רווח הסמך יהיו קטנים יותר ברווח הסמך החדש.
  - רמת הביטחון לבנות רווח הסמך החדש תהיה קטנה יותר.

9) חוקר בנה רווח סמך ל- $\mu$  וקיבל:  $48 < \mu < 54$ . מה נכון בהכרח:

א.  $\mu = 51$ .

ב.  $\bar{X} = 6$ .

ג.  $\bar{X} = 51$ .

ד. אורך רווח הסמך הינו 3.

10) איזה מהגורמים הבאים אינו משפיע על גודלו של רווח בר סמך, כאשר שונות האוכלוסייה ידועה (בחרו בתשובה הנכונה):

א. רמת הביטחון.

ב. סטיית התקן באוכלוסייה.

ג. מספר המשתתפים.

ד. סטיית התקן במדגם.

### תשובות סופיות:

1) א. העובדים במשק. ב. שכר ב-ש. ג.  $\mu$ . ד.  $9200 < \mu < 9800$ .

ז. 0.05.

ו. 600.

ה. 0.95.

2)  $4920.6 < \mu < 4979.4$

ב.  $222.16 < \mu < 237.84$

א.  $223.42 < \mu < 236.58$

ג. ראה סרטון.

4) א.  $10,116 < \mu < 9284$ . ב. הסטייה המירבית בין  $\bar{x}$  ל- $\mu$  היא 416 שם בבטחון של 95%.

ד. לא.

ג. 800.

ג. 0.9544.

ב. 3.

א. 102.

ג. גדל.

ב. יקטן פי 2.

א.  $4.42 < \mu < 83.5$ .

ג. 0.9544.

ב. 5.

א. 87.

8) ב'.

9) ג'.

10) ד'.

## קביעת גודל מדגם:

### רקע:

אם מעוניינים לאמוד את ממוצע האוכלוסייה כאשר סטיית התקן של האוכלוסייה ידועה:  $\sigma$  ברמת סמך של  $1-\alpha$  ושגיאת אמידה שלא תעלה על  $\varepsilon$  מסוים, נציב

$$.n \geq \left( \frac{z_{1-\frac{\alpha}{2}} \cdot \sigma}{\varepsilon} \right)^2$$

בנוסחה הבאה:

כדי להציב בנוסחה צריך שהמשתנה הנחקר יתפלג נורמלית או שהמדגם ייצא בגודל של לפחות 30 תצפיות.

### דוגמה (פתרון בהקלטה):

חברת תעופה מעוניינת לאמוד את תוחלת משקל המטען של נוסע. נניח שמשקל מטען של נוסע מתפלג נורמאלית עם סטיית תקן של 2 ק"ג. כמה נוסעים יש לדגום אם מעוניינים שבביטחון של 98% הסטייה המרבית בין ממוצע המדגם לממוצע האמתי לא יעלה על 0.5 ק"ג? (תשובה: 87).

## שאלות:

- (1) משתנה מקרי מתפלג נורמאלית עם סטיית תקן ידועה 12. מה צריך להיות גודל המדגם כדי לבנות רווח סמך ברמת סמך של 98% שאורכו לא יעלה על 2?
- (2) מעוניינים לאמוד את הדופק הממוצע של מתגייסים לצבא. מעוניינים שבביטחון של 95% שגיאת האמידה המרבית תהיה 0.5. נניח שהדופק מתפלג נורמאלית על סטיית תקן של 3 פעימות לדקה.  
 א. כמה מתגייסים יש לדגום?  
 ב. אם ניקח מדגם הגדול פי 4 מהמדגם של סעיף א ונאמוד את הממוצע באותה רמת סמך כיצד הדבר ישפיע על שגיאת האמידה?
- (3) יהי  $X$  משתנה מקרי עם ממוצע  $\mu$  וסטיית תקן  $\sigma$ . חוקר רוצה לבנות רווח בר סמך ל- $\mu$  ברמת ביטחון של 0.95, כך שהאורך של הרווח יהיה  $0.5\sigma$ . מהו גודל המדגם הנדרש?

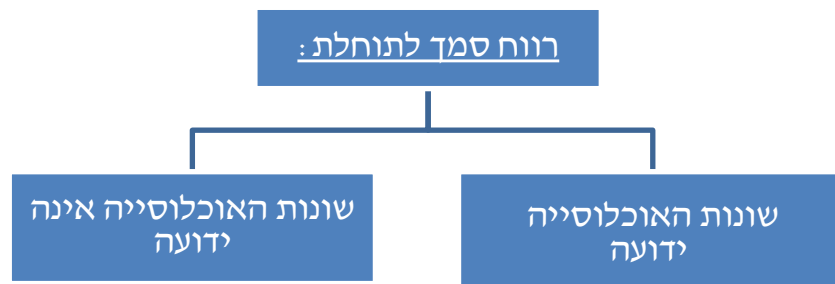
## תשובות סופיות:

- (1) .780  
 (2) א. 139. ב. הדבר יקטין את  $\varepsilon$  פי 2.  
 (3)  $n = 62$ .

## רווח סמך כששונות האוכלוסייה לא ידועה:

רקע:

בבואנו לבנות רווח סמך לתוחלת אנו צריכים להתמקד בשני המצבים הבאים:

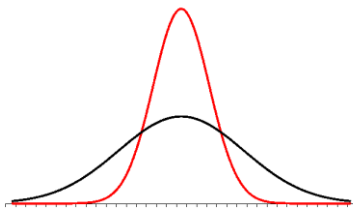


בפרק זה נעסוק במקרה ששונות האוכלוסייה  $(\sigma^2)$  אינה ידועה לנו.

מקרה יותר פרקטי.

**התנאי:**  $X \sim N$  או שהמדגם גדול.

**רווח סמך:**  $\bar{X} \pm t_{1-\frac{\alpha}{2}}^{(n-1)} \cdot \frac{S}{\sqrt{n}}$



$$\text{האומד לשונות: } S^2 = \frac{\sum_{i=1}^n (X_i - \bar{X})^2}{n-1} = \frac{\sum_{i=1}^n X_i^2 - n\bar{X}^2}{n-1}$$

**התפלגות T:**

הינה התפלגות סימטרית פעמונית שהתוחלת שלה היא 0. ההתפלגות דומה

להתפלגות Z רק שהיא יותר רחבה ולכן הערכים שלה יהיו יותר גבוהים.

התפלגות T תלויה במושג שנקרא דרגות חופש. דרגות החופש הן:  $df = n-1$ .

ככל שדרגות החופש עולות ההתפלגות הופכת להיות יותר גבוהה וצרה.

כשדרגות החופש שואפות לאינסוף התפלגות T שואפת להיות כמו התפלגות Z.

**דוגמה (פתרון בהקלטה):**

הזמן שלוקח לפתור שאלה מסוימת בחשבון מתפלג אצל תלמידי כיתות ח' נורמאלית.

במטרה לאמוד את תוחלת זמן הפתרון נדגמו 4 תלמידים בכיתה ח'. להלן התוצאות

שהתקבלו בדקות: 4.7, 5.2, 4.6, 5.3.

בנו רווח סמך ברמת סמך של 95% למוצע זמן הפתרון לשאלה בקרב תלמידי כיתה ח'.

## שאלות:

- (1) מחקר מעוניין לדעת כיצד תרופה מסוימת משפיעה על קצב פעימות הלב. ל-5 אנשים שנטלו את התרופה מדדו את הדופק והתקבל מספר פעימות לדקה: 84, 88, 84, 79, 89. הערה: לצורך פתרון הנח שקצב פעימות הלב מתפלג נורמאלית בקירוב.
- א. בנו רווח סמך ברמת סמך של 95% לתוחלת הדופק של נוטלי התרופה הנ"ל.
- ב. נתון שהדופק הממוצע ללא לקיחת התרופה הינו 70. לאור זאת, האם בביטחון של 95% התרופה משפיעה על הדופק?
- ג. בהמשך לסעיף א', אם היינו בונים את רווח הסמך ברמת ביטחון של 99%, כיצד הדבר היה משפיע על רווח הסמך?
- (2) במדגם שנעשה על 25 מתגייסים לצבא האמריקאי התקבל כי גובה ממוצע של חייל הינו 178 ס"מ עם סטיית תקן:  $S = 13$  ס"מ. בנו רווח סמך ברמת סמך של 90% לתוחלת גובה המתגייסים לצבא האמריקאי. מה יש להניח לצורך פתרון?
- (3) אדם מעוניין לאמוד את זמן הנסיעה הממוצע שלו לעבודה. לצורך כך הוא דוגם 5 ימים שזמן הנסיעה בהם בדקות הוא: 30, 40, 32, 34, 27.
- א. ברמת ביטחון של 95% אמוד את זמן הנסיעה הממוצע. מהי ההנחה הדרושה לצורך פתרון?
- ב. איך גודל רווח הסמך היה משתנה אם היו דוגמים עוד ימים?
- (4) ציוני מבחן אינטליגנציה מתפלגים נורמאלית. נדגמו 25 מבחנים והתקבל ממוצע ציונים 102 וסטיית תקן מדגמית 13.
- א. בנו רווח סמך לממוצע הציונים באוכלוסייה ברמת ביטחון של 95%.
- ב. חזרו על סעיף א' אם סטיית התקן הינה סטיית התקן האמתית של כלל הנבחנים.
- ג. הסבירו את ההבדלים בין שני הסעיפים הנ"ל.
- (5) נשקלו 60 תינוקות אשר נולדו בשבוע ה-40 של ההיריון. המשקל נמדד בקילוגרמים. להלן התוצאות שהתקבלו:  $\sum_{i=1}^{60} X_i = 195$ ,  $\sum_{i=1}^{60} X_i^2 = 643.19$ .
- בנו רווח סמך ברמת סמך של 95% לתוחלת משקל תינוק ביום היוולדו.

- (6) נדגמו 120 אנשים אקראיים מעל גיל 50. עבור כל אדם נבדק מספר שנות השכלתו. להלן התוצאות שהתקבלו:  $\bar{x} = 13.8$ ,  $S = 2$ . בנו רווח סמך ברמת סמך של 96% לממוצע ההשכלה של אזרחים מעל גיל 50.
- (7) שני סטטיסטיקאים בנו רווח בר-סמך לאותו פרמטר  $\mu$ . לכל אחד מהסטטיסטיקאים מדגם אחר, אך באותו גודל 10. שניהם קבעו אותה רמת סמך. סטטיסטיקאי א': הניח  $\sigma = 20$ . סטטיסטיקאי ב': חישב לפי המדגם וקיבל  $S = 20$ . למי משני הסטטיסטיקאים יהיה רווח סמך ארוך יותר?  
 א. סטטיסטיקאי א'.  
 ב. סטטיסטיקאי ב'.  
 ג. אותו אורך רווח סמך לשני הסטטיסטיקאים.  
 ד. תלוי בתוצאות המדגם של כל סטטיסטיקאי.
- (8) נתון ש:  $X \sim N(\mu, \sigma^2)$  ביצעו מדגם בגודל 16 וקיבלו סטיית תקן מדגמית 10. אורך רווח הסמך שהתקבל הוא: 8.765. מהי רמת הביטחון של רווח הסמך?

### תשובות סופיות:

- (1) א.  $79.88 < \mu < 89.72$       ב. כן.      ג. הוא היה גדל.
- (2) ראה בסרטון.
- (3) א. צריך להניח שהמשתנה מתפלג נורמלית.      ב. לא ניתן לדעת.
- (4) א.  $96.63 < \mu < 107.37$       ב.  $96.90 < \mu < 107.10$       ג. ראה בסרטון.
- (5)  $3.149 < \mu < 3.351$
- (6)  $13.42 < \mu < 14.18$
- (7) ב'.
- (8) 90%

## סטטיסטיקה ב

פרק 6 - רווח סמך לפרופורציה

תוכן העניינים

37	.....	1. רווח הסמך לפרופורציה
40	.....	2. קביעת גודל מדגם

## רווח הסמך לפרופורציה:

### רקע:

המטרה היא לאמוד את  $P$  – פרופורציה באוכלוסייה.

### האומד הנקודתי:

$$\hat{p} = \frac{y}{n} \quad (Y - \text{ מספר ההצלחות שבמדגם}).$$

$$\text{רווח הסמך ל- } p : \hat{p} \pm Z_{1-\frac{\alpha}{2}} \sqrt{\frac{\hat{p}(1-\hat{p})}{n}}$$

### תנאי לבניית רווח הסמך:

מדגם של לפחות 30 תצפיות (לעיתים נותנים תנאי של מספר הצלחות ומספר כשלונות לפחות 5 או לפחות 10).

$$\text{האומד לטעות התקן: } \sqrt{\frac{\hat{p}(1-\hat{p})}{n}}$$

$$\text{מתקיים ש: } \hat{p} = \frac{A+B}{2}, \quad L = 2\varepsilon$$

### דוגמה (פתרון בהקלטה):

במטרה לאמוד את אחוז המובטלים במשק נדגמו 200 אזרחים, מתוכם התקבל ש-24 היו מובטלים.

א. בנו רווח סמך לאחוז המובטלים באוכלוסייה ברמת סמך של 95%.

ב. מהו האומד לטעות התקן?

## שאלות:

- (1) נדגמו 200 דירות בעיר חיפה. 48 מתוכן נמצאו כבעלות ממ"ד.  
 א. בנו רווח סמך ברמת סמך של 95% לאחוז הדירות בחיפה עם ממ"ד.  
 ב. על סמך סעיף א' מה ניתן לומר על שגיאת האמידה המקסימאלית?  
 ג. בהנחה ובחיפה 80 אלף דירות, בנו רווח סמך ברמת סמך של 95% למספר הדירות בחיפה עם ממ"ד בפועל.
- (2) במדגם של 300 אנשי היי-טק התקבל ש-180 מהם אקדמאים.  
 א. בנו רווח סמך לפרופורציית אקדמאים ברמת סמך של 95% (בקרב אנשי הייטק).  
 ב. כיצד רווח הסמך של סעיף א' היה משתנה אם היינו מקטינים את רמת הסמך?  
 ג. כיצד רווח הסמך היה משתנה אם היינו מגדילים את גודל המדגם?
- (3) במדגם של 400 נהגים התקבל רווח סמך לפרופורציית הנהגים החדשים:  
 $0.08 < p < 0.18$   
 א. כמה נהגים במדגם היו נהגים חדשים?  
 ב. מהי רמת הסמך של רווח הסמך שנבנה?
- (4) במסגרת מערכת הבחירות בארה"ב נשאלו 840 אנשים עבור איזה מועמד יצביעו. 510 אנשים ענו כי יצביעו בעד ברק אובמה. בסקר פורסם שתתכן סטייה של  $\pm 3\%$  מתוצאות האמת. באיזו רמת ביטחון הסקר השתמש?
- (5) במדגם של 300 נשים בגילאי 40-35 נמצא ש-140 היו נשואות, 80 היו גרושות, 60 רווקות והיתר אלמנות.  
 א. מצאו רווח סמך ברמה של 90% לאחוז הגרושות באוכלוסייה הנחקרת.  
 ב. מצאו רווח סמך ברמה של 99% לסיכוי שבאוכלוסייה הנחקרת תמצא אישה לא נשואה?
- (6) ביצעו מדגם באוכלוסייה. שיעור ההצלחות במדגם היה 10% ורווח הסמך ניבנה ברמת סמך של 95%. אורכו הינו 8.3156%. מהו גודל המדגם שנלקח?

**תשובות סופיות:**

- (1) א.  $.18.1\% < p < 29.9\%$   
 ב. בביטחון של 95% שגיאת האמידה היא לכל היותר 0.059.  
 ג.  $.14,480 < \mu < 23,920$
- (2) א.  $0.545 \leq p \leq 0.655$   
 ב. האורך שלו היה קטן.  
 ג. לא ניתן לדעת.
- (3) א. 0.52  
 ב. 0.997
- (4) 0.925
- (5) א.  $.30.9\% > p > 22.5\%$   
 ב.  $.60.72\% > p > 45.91\%$
- (6) 0.200

## קביעת גודל מדגם:

### רקע:

בפרק זה נדון איך קובעים גודל מדגם שבאים לאמוד פרופורציה באוכלוסייה מסוימת: החוקר קובע מראש את רמת הסמך הרצויה:  $1-\alpha$ . החוקר קובע מראש את הטעות הסטטיסטית המרבית שבה הוא מעוניין:  $\varepsilon$  (או את אורך רווח הסמך).

$L = 2\varepsilon$  - אורך רווח הסמך.

$\varepsilon$  - טעות אמידה מרבית: המרחק המקסימאלי (הסטייה) בין הפרמטר ( $p$ ) לאומד ( $\hat{p}$ ).

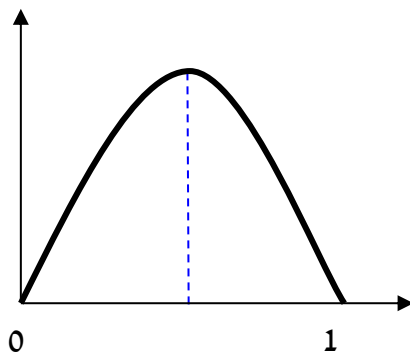
$$\varepsilon = z_{1-\frac{\alpha}{2}} \cdot \sqrt{\frac{\hat{p}(1-\hat{p})}{n}}$$

ויתעניין לדעת מהו גודל המדגם הרצוי לשם כך.

$$.n \geq \left( \frac{2 \cdot z_{1-\frac{\alpha}{2}} \cdot \sqrt{\hat{p}(1-\hat{p})}}{L} \right)^2 \quad \text{נקבל ש:}$$

הבעיה שאין לנו יודעים את  $\hat{p}$ .

נתבונן בביטוי:  $\hat{p}(1-\hat{p})$ .



כיוון שאין לנו ידע מוקדם על  $\hat{p}$  נציב את המקרה השמרני ביותר שממקסם את הביטוי עבור:  $\hat{p} = 0.5$ .

$$.n \geq \left( \frac{2 \cdot z_{1-\frac{\alpha}{2}} \sqrt{0.5 \cdot 0.5}}{L} \right) \Rightarrow n \geq \left( \frac{z_{1-\frac{\alpha}{2}}}{L} \right)$$

אך אם תהיה לנו אינפורמציה מוקדמת על הפרופורציה נציב את הערך הקרוב ביותר ל-0.5 האפשרי.

### דוגמה (פתרון בהקלטה):

מעוניינים לאמוד את שיעור האבטלה במשק. האמידה צריכה להתבצע ברמת סמך של 90% ועם שגיאת אמידה שלא תעלה על 4%.

א. מהו גודל המדגם המינימאלי שיש לקחת?

ב. חזור לסעיף א' אם ידוע שהאבטלה לא אמורה לעלות על 20%.

## שאלות:

- (1) הממשלה אומדת מדי חודש את אחוז התמיכה בה. מהו גודל המדגם אשר יש לקחת אם דורשים שהאומדן לא יסטה מהאחוז האמתי באוכלוסייה ביותר מ-3%, וזאת בביטחון של 95%?
- (2) משרד התקשורת מעוניין לדעת מה שיעור בתי האב עם אינטרנט.  
 א. כמה בתי אב יש לדגום אם מעוניינים שבביטחון של 90% אורך רווח הסמך לא יעלה על 8%?  
 ב. חזרו על סעיף א' אם ידעו שלפני חמש שנים ל-80% מבתי האב היה אינטרנט וכיום יש להניח שיש ליותר אינטרנט.
- (3) ערוץ טלוויזיה מעוניין לאמוד את הרייטינג של הערוץ בפריים טיים. המטרה שבביטחון של 95% הסטייה המרבית בין האומד לרייטינג האמתי לא תעלה על 4%.  
 א. כמה מכשירי PEOPLE METER יש להתקין לצורך האמידה?  
 ב. לפי הערכה מוקדמת הרייטינג של הערוץ לא יכול לעלות על 20%. בהנחה ומכשיר כזה עולה 500 ₪ ליחידה מה החיסכון הכספי מאינפורמציה זאת?
- (4) ענו על הסעיפים הבאים:  
 א. כמה אזרחים יש לדגום כדי לאמוד את אחוז התמיכה בממשלה עם אורך רווח הסמך שלא עולה על 9% ברמת סמך של 90%?  
 ב. בהנחה ובוצע מדגם שאת גודלו חישובתם בסעיף א והתקבל שאחוז התמיכה בממשלה במדגם הנו 42%. בנו רווח סמך לאחוז התמיכה בממשלה ברמת סמך של 95%.  
 ג. על סמך סעיף ב', האם תקבלו את הטענה שמיעוט האוכלוסייה תומך הממשלה?
- (5) משרד הבריאות מתכנן לבצע מדגם שמטרתו לבדוק את הסיכוי לחלות בשפעת עם לקיחת חיסון נגד שפעת. הוא מעוניין שבסיכוי של 98% טעות האמידה לא תעלה על 3%.  
 א. כמה מחוסנים יש לדגום?  
 ב. משרד הבריאות ביצע את המדגם שאת גודלו חישובתם בסעיף הקודם וקיבל ש-15% מבין אלה שקיבלו חיסון נגד שפעת בכל זאת חלו במשך החורף בשפעת. בנו ברמת סמך של 98% את הסיכוי לחלות בחורף בשפעת עם לקיחת חיסון נגד שפעת.  
 ג. בהמשך לסעיף הקודם. מהי טעות האמידה המרבית בביטחון של 98% מדוע הוא קטן מ-3%?

### תשובות סופיות:

- (1) .1068
- (2) א. .423 ב. .271
- (3) א. .601 ב. 108,000 ₪.
- (4) א. .335 ב.  $0.367 < p < 0.473$ .
- ג. בביטחון של 0.95 ניתן להגיד שמיעוט באוכלוסייה תומך בממשלה.
- (5) א. .1509 ב.  $0.15 \pm 0.02$  ג. ראה סרטון.

## סטטיסטיקה ב

פרק 7 - רווח סמך להפרש תוחלות (ממוצעים) במדגמים בלתי תלויים

תוכן העניינים

1. כששונות האוכלוסיה לא ידועות ובהנחת שוויון שונות.....43

## כששונויות האוכלוסייה לא ידועות ובהנחת שוויון שונויות:

### רקע:

המטרה היא לאמוד את פער התוחלות:  $\mu_1 - \mu_2$ , כלומר ההבדלים של הממוצעים בין שתי האוכלוסיות.

האומד נקודתי:  $\bar{x}_1 - \bar{x}_2$ .

התנאים לבניית רווח הסמך:

$$1. \sigma_1^2 = \sigma_2^2$$

$$2. X_1, X_2 \sim N$$

3. מדגמים בלתי תלויים.

**השונויות המשוקללת:** כיוון שאנו מניחים שבין שתי האוכלוסיות השונויות שוות אנו אומדים את השונויות הזו על ידי שקלול שתי השונויות של שני המדגמים על ידי

$$S_p^2 = \frac{(n_1 - 1)S_1^2 + (n_2 - 1)S_2^2}{n_1 + n_2 - 2}$$

הנוסחה הבאה:

$$d.f = n_1 + n_2 - 2$$

דרגות החופש:

$$\text{רווח סמך: } (\bar{x}_1 - \bar{x}_2) \pm t_{1-\frac{\alpha}{2}}^{n_1+n_2-2} \cdot \sqrt{\frac{S_p^2}{n_1} + \frac{S_p^2}{n_2}}$$

אם הערך אפס נופל בגבולות רווח הסמך נגיד שבביטחון של  $1 - \alpha$ , לא קיים הבדל בין התוחלות.

### דוגמה (פתרון בהקלטה):

מחקר מעוניין לבדוק האם קיים הבדל בין תל אביב לבאר שבע מבחינת ההכנסה הממוצעת של אקדמאים. להלן תוצאות המדגם שנעשה:

באר שבע	תל אביב	
10	20	מספר האקדמאים
9500	11,000	ממוצע הכנסות של אקדמאים
250	200	סטיית התקן של הכנסות אקדמאים

בנו רווח סמך ברמת ביטחון של 90% להפרש תוחלות ההכנסה בשני האזורים. הניחו שהשכר מתפלג נורמלית עם אותה שונות בכל אחד מהאזורים.

## שאלות:

- (1) נדגמו 15 ישראלים ו-15 אמריקאים. כל הנדגמים נגשו למבחן IQ. להלן תוצאות המדגם:

המדינה	ישראל	ארה"ב
גודל המדגם	15	15
סכום הציונים	1560	1470
סכום ריבועי הציונים	165,390	147,560

מצאו רווח סמך ברמת סמך של 95% לסטייה בין ממוצע הציונים בישראל לממוצע הציונים בארה"ב. רשמו את כל ההנחות הדרושות לצורך פתרון התרגיל.

- (2) להלן 4 תצפיות על משתנה  $X$  שמתפלג:  $N(\mu_x, \sigma^2)$ , ומשתנה  $Y$  שמתפלג:  $N(\mu_y, \sigma^2)$ .

X	22	20	21	25
Y	18	25	17	12

חשבו רווח סמך ל- $\mu_y - \mu_x$  ברמת הסמך 90%, בהנחה ששני המדגמים בלתי תלויים.

## תשובות סופיות:

- (1) הנחות:
1. השונות שווה.
  2. שהציונים מתפלגים נורמלית.
  3. המדגמים אינם תלויים זה בזה.
- $$-5.52 < \mu_1 - \mu_2 < 17.52$$
- (2)
- $$-9.6 < \mu_y - \mu_x < 1.6$$

## סטטיסטיקה ב

פרק 8 - רווח סמך לתוחלת (ממוצע) ההפרשים במדגמים מזווגים

תוכן העניינים

1. רווח סמך לתוחלת (ממוצע) ההפרשים במדגמים מזווגים ..... 45

## רווח סמך לתוחלת (ממוצע) ההפרשים במדגמים מזווגים:

### רקע:

**מדגם מזווג:** מדגם אחד שבו יש  $n$  צמדים. כל תצפית במדגם תנפק זוג ערכים:  $X$  ו- $Y$ .

ניצור משתנה חדש:  $D = x - y$ .

הפרמטר שנרצה לאמוד:  $\mu_D$ .

התנאים לבניית רווח הסמך:

1.  $x, y \sim N$ .

2. המדגם מזווג.

נוסחת רווח הסמך:  $\bar{D} \pm t_{1-\frac{\alpha}{2}}^{n-1} \frac{S_D}{\sqrt{n}}$ .

כאשר דרגות החופש:  $df = n - 1$ .

### דוגמה (פתרון בהקלטה):

מעוניינים לבדוק האם יש הבדל בין מהירות הריצות של שתי תוכנות מחשב. לקחו 5 קבצים אקראיים והריצו אותם בשתי התוכנות:

הקובץ	1	2	3	4	5
הזמן בתוכנה הראשונה	25	48	49	46	38
הזמן בתוכנה השנייה	27	46	42	40	48

הניחו כי זמני הריצות מתפלגים נורמלית. מצאו רווח סמך של 95% להפרש תוחלת הזמן בין שתי התוכנות.

## שאלות:

- (1) נדגמו 5 סטודנטים שסיימו את הקורס סטטיסטיקה ב'. להלן הציונים בסמסטר א' ו-ב':

82	75	90	68	74	סמסטר א'
100	76	87	84	80	סמסטר ב'

נניח שהציונים מתפלגים נורמאלית.

- א. בנו רווח סמך ברמת סמך של 95% לתוחלת פער הציונים בין סמסטר א' לבין סמסטר ב'.
- ב. האם על סמך רווח הסמך קיים הבדל בין הסמסטרים מבחינת תוחלת הציונים?
- ג. מה צריך לשנות בנתונים כדי שהמדגמים יהיו בלתי תלויים?
- (2) במטרה לבדוק האם קיים הבדל בין קווי זהב לבזק מבחינת ממוצע המחירים לשיחות בינ"ל. נדגמו באקראי 7 מדינות ועבור כל מדינה נבדקה עלות דקת שיחה. להלן התוצאות:

חברה/ מדינה	ארה"ב	קנדה	הולנד	פולין	מצרים	סין	יפן
בזק - X	1.5	2.1	2.2	3	3.5	3.2	4.2
קווי זהב - Y	1.4	2	1.9	3.1	3.3	3.2	4.2

בהנחה והמחירים מתפלגים נורמלית עבור כל חברה, בנו רווח סמך ברמת סמך של 90% לתוחלת הפרש המחירים של שתי החברות.

## תשובות סופיות:

- (1) א.  $-19 < \mu_0 < 38$ . ב. בביטחון של 95% לא קיים הבדל. ג. ראה הסבר בסרטון.
- (2)  $-0.013 < \mu < 0.185$ .

## סטטיסטיקה ב

פרק 9 - שאלות מסכמות על רווחי סמך

תוכן העניינים

1. שאלות מסכמות על רווחי סמך ..... 47

## שאלות מסכמות על רווחי סמך:

### שאלות:

(2) 200 אנשים נשאלו כמה פעמים ביום הם שותים כוס קפה. להלן התפלגות התשובות:

5	4	3	2	1	0	מספר פעמים
10	20	22	28	34	86	מספר אנשים

- א. תנו רווח סמך לממוצע מספר כוסות הקפה שאנשים נוהגים לשתות ביום.  $\alpha = 0.05$ .
- ב. אדם השותה לפחות 4 כוסות קפה ביום נקרא "מכור לקפה". בנו רווח סמך לאחוז "המכורים לקפה".  $\alpha = 0.1$ .
- (3) חוקר בנה רווח סמך לאחוז האנשים שהתקררו לפחות פעם אחת בשנה. רווח הסמך שהתקבל הוא:  $81 < p < 91$ . רווח הסמך הנ"ל התבסס על מדגם של 500 איש.
- א. כמה אנשים במדגם טענו שכלל לא התקררו השנה?
- ב. באיזו רמת סמך נבנה רווח הסמך?
- ג. בנו רווח סמך לאחוז האנשים שהתקררו לפחות פעם אחת השנה ברמת סמך של 96% על סמך תוצאות המדגם.

(4) ציוני IQ בארה"ב מתפלגים נורמאלית עם תוחלת 100. במדגם של 20 ישראלים שנבחנו במבחן ה-IQ התקבלו התוצאות הבאות:

$$\sum_{i=1}^{20} x_i = 2040, \quad \sum_{i=1}^{20} x_i^2 = 210740$$

- א. אמדו ברמת ביטחון של 90% את ממוצע ציוני בחינת ה-IQ בישראל – מהי ההנחה הדרושה לפתרון?
- ב. על סמך רווח הסמך של סעיף א' האם תקבלו את הטענה שבישראל ממוצע הציונים שונה מארה"ב?
- ג. מה היה קורה לרווח הסמך אם היינו מגדילים את רמת הסמך שלו?

8) להלן מדגם של שכר הדירה ב-שם של 5 דירות שלושה חדרים בשכונת בבלי בתל אביב:

7500	6500	7000	7500	8000	שנת 2012
7700	6800	7800	8200	8000	שנת 2013

בנו רווח סמך ברמת סמך של 95% לתוחלת עליית שכר הדירה משנת 2012 לשנת 2013 בשכונת בבלי. ניתן להניח ששכר הדירה בשכונה מתפלג נורמלית.

### תשובות סופיות:

- 2) א.  $1.21 \leq \mu \leq 1.65$       ב.  $10.85\% \leq p \leq 19.15\%$
- 3) א. 70      ב. 0.9988      ג.  $83\% < p < 89\%$
- 4) א.  $97.4 \leq \mu \leq 106.6$       ב. לא.      ג. יגדל.
- 8)  $-21 \leq \mu_D \leq 821$

## סטטיסטיקה ב

פרק 10 - מבוא לבדיקת השערות על פרמטרים

תוכן העניינים

49	.....	1. הקדמה
53	.....	2. סוגי טעויות

## הקדמה:

### רקע:

תהליך של בדיקת השערות הוא תהליך מאד נפוץ בעולם הסטטיסטיקה. בבדיקת השערות על פרמטרים נעבוד לפי השלבים הבאים:

**שלב א:** נוהה את הפרמטר הנחקר.

**שלב ב:** נרשום את השערות המחקר.

השערת האפס המסומנות ב- $H_0$ .

בדרך כלל השערת האפס מסמלת את אשר היה מקובל עד עכשיו, את השגרה, הנורמה.

השערה אלטרנטיבית (השערת המחקר) המסומנת ב- $H_1$ .

ההשערה האלטרנטיבית מסמלת את החדשנות בעצם ההשערה האלטרנטיבית מדברת על הסיבה שהמחקר נעשה היא שאלת המחקר.

**שלב ג:** נבדוק האם התנאים לביצוע התהליך מתקיימים ונניח הנחות במידת הצורך.

**שלב ד:** נרשום את כלל ההכרעה. בתהליך של בדיקת השערות יוצרים כלל שנקרא כלל הכרעה. הכלל יוצר אזורי שנקראים:

1. **אזור דחייה:**

דחייה של השערת האפס כלומר קבלה של האלטרנטיבה.

2. **אזור קבלה:**

קבלה של השערת האפס ודחייה של האלטרנטיבה. כלל ההכרעה מתבסס על איזשהו סטטיסטי. אזור הדחייה מוכתב על ידי סיכון שלוקח החוקר מראש שנקרא רמת מובהקות ומסומן ב- $\alpha$ .

**שלב ה:** בתהליך יש ללכת לתוצאות המדגם ולחשב את הסטטיסטי המתאים ולבדוק האם התוצאות נופלות באזור הדחייה או הקבלה.

**שלב ו:** להסיק מסקנה בהתאם לתוצאות המדגם.

**דוגמה (פתרון בהקלטה):**

משרד הבריאות פרסם שמשקל ממוצע של תינוקות ביום לידתם בישראל 3300 גרם. משרד הבריאות רוצה לחקור את הטענה שנשים מעשנות בזמן ההיריון יולדות תינוקות במשקל נמוך מהממוצע. במחקר השתתפו 20 נשים מעשנות בהריון. להלן תוצאות המדגם שבדק את המשקל של התינוקות בעת הלידה:

$$n = 20, \bar{X} = 3120, S = 280$$

- א. מהי אוכלוסיית המחקר?
- ב. מה המשתנה הנחקר?
- ג. מה הפרמטר הנחקר?
- ד. מהן השערות המחקר?

## שאלות:

בשאלות הבאות, ענו על הסעיפים הבאים:

א. מהי אוכלוסיית המחקר?

ב. מה המשתנה הנחקר?

ג. מה הפרמטר הנחקר?

ד. מהן השערות המחקר?

- (1) ממוצע הציונים בבחינת הבגרות באנגלית הנו 72 עם סטיית תקן 15 נקודות. מורה טוען שפיתח שיטת לימוד חדשה שתעלה את ממוצע הציונים. משרד החינוך החליט לתת למורה 36 תלמידים אקראיים. ממוצע הציונים של אותם תלמידים לאחר שלמדו בשיטתו היה 75.5.
- (2) לפי הצהרת היצרן של חברת משקאות מסוימת נפח הנוזל בבקבוק מתפלג נורמלית עם תוחלת 500 סמ"ק וסטיית תקן 20 סמ"ק. אגודת הצרכנים מתלוננת על הפחתת נפח המשקה בבקבוק מהכמות המוצהרת. במדגם שעשתה אגודת הצרכנים התקבל נפח ממוצע של 492 סמ"ק במדגם בגודל 25.
- (3) במשך שנים אחוז המועמדים שהתקבל לפקולטה למשפטים היה 25%. השנה מתוך מדגם של 120 מועמדים התקבלו 22. מחקר מעוניין לבדוק האם השנה מקשים על הקבלה לפקולטה למשפטים.
- (4) בחודש ינואר השנה פורסם שאחוז האבטלה במשק הוא 8% במדגם עכשווי התקבל שמתוך 200 אנשים 6.5% מובטלים. רוצים לבדוק ברמת מובהקות של 5% האם כיום אחוז האבטלה הוא כמו בתחילת השנה.

### תשובות סופיות:

- (1) א. נבחנים בבגרות באנגלית.  
 ב. ציון.  
 ג. ממוצע הציונים בשיטת לימוד חדשה.  
 ד.  $H_0: \mu = 72$   
 $H_1: \mu > 72$
- (2) א. משקאות בבקבוק של חברה מסוימת.  
 ב. נפח משקה בסמ"ק.  
 ג. ממוצע נפח המשקה בבקבוק.  
 ד.  $H_0: \mu = 500$   
 $H_1: \mu < 500$
- (3) א. מועמדים לפקולטה למשפטים.  
 ב. משתנה דיכוטומי (התקבל, לא התקבל).  
 ג. אחוז הקבלה.  
 ד.  $H_0: p = 0.25$   
 $H_1: p < 0.25$
- (4) א. אזרחים בוגרים במשק.  
 ב. משתנה דיכוטומי (מובטל, עובד).  
 ג. אחוז האבטלה כיום.  
 ד.  $H_0: p = 0.08$   
 $H_1: p \neq 0.08$

## סוגי טעויות:

### רקע:

בתהליך של בדיקת השערות יוצרים כלל שניקרא כלל הכרעה.  
 הכלל יוצר אזורים שנקראים:

1. אזור דחייה – דחייה של השערת האפס כלומר קבלה של האלטרנטיבה.
2. אזור קבלה – קבלה של השערת האפס ודחייה של האלטרנטיבה.

כלל ההכרעה מתבסס על איזשהו סטטיסטי.  
 בתהליך יש ללכת לתוצאות המדגם ולבדוק האם התוצאות נופלות באזור הדחייה או הקבלה וכך להגיע למסקנה – המסקנה היא בעירבון מוגבל כיוון שהיא תלויה בכלל ההכרעה ובתוצאות המדגם. אם נשנה את כלל ההכרעה אז אנחנו יכולים לקבל מסקנה אחרת. אם נבצע מדגם חדש אז אנחנו עלולים לקבל תוצאה אחרת. לכן יתכנו טעויות במסקנות שלנו:

		הכרעה	
		$H_0$	$H_1$
מציאות	$H_0$	אין טעות	טעות מסוג 1
	$H_1$	טעות מסוג 2	אין טעות

### הגדרת הטעויות:

טעות מסוג ראשון: להכריע לדחות את  $H_0$  למרות שבמציאות  $H_0$  נכונה.

טעות מסוג שני: להכריע לקבל את  $H_0$  למרות שבמציאות  $H_1$  נכונה.

### דוגמה (פתרון בהקלטה):

אדם חשוד בביצוע עבירה ונתבע בבית המשפט.  
 אילו סוגי טעויות אפשריות בהכרעת הדין?

## שאלות:

- (1) לפי הצהרת היצרן של חברת משקאות מסוימת נפח הנוזל בבקבוק מתפלג נורמלית עם תוחלת 500 סמ"ק וסטיית תקן 20 סמ"ק. אגודת הצרכנים מתלוננת על הפחתת נפח המשקה בבקבוק מהכמות המוצהרת. במדגם שעשתה אגודת הצרכנים התקבל נפח ממוצע של 492 סמ"ק במדגם בגודל 25. בסופו של דבר הוחלט להכריע לטובת חברת המשקאות.
- א. רשמו את השערות המחקר.  
 ב. מה מסקנת המחקר?  
 ג. איזו סוג טעות יתכן וביצעו במחקר?
- (2) במחקר על פרמטר מסוים הוחלט בסופו של דבר לדחות את השערת האפס.
- א. האם ניתן לדעת אם בוצע טעות במחקר?  
 ב. מה סוג הטעות האפשרית?
- (3) לפי נתוני משרד הפנים בשנת 1980 למשפחה ממוצעת היה 2.3 ילדים למשפחה עם סטיית תקן 0.4. ישנה טענה שכיום ממוצע מספר הילדים במשפחה קטן יותר. לצורך כך הוחלט לדגום 121 משפחות. במדגם התקבל ממוצע 2.17 ילדים למשפחה. על סמך תוצאות המדגם נקבע שלא ניתן לקבוע שבאופן מובהק תוחלת מספר הילדים למשפחה קטנה כיום.
- א. מהי אוכלוסיית המחקר?  
 ב. מה המשתנה הנחקר?  
 ג. מה הפרמטר הנחקר?  
 ד. מה השערות המחקר?  
 ה. מה מסקנת המחקר?  
 ו. מהי סוג הטעות האפשרית במחקר?

## תשובות סופיות:

- (1) א.  $H_0: \mu = 500$   
 ב. לא דחינו את  $H_0$ .  
 ג. טעות מסוג שני.
- (2) א. לא ניתן לדעת.  
 ב. טעות מסוג ראשון.  
 (3) א. משפחות כיום.  
 ב. מס' הילדים.  
 ג. תוחלת מספר הילדים למשפחה כיום.  
 ה. לא לדחות את  $H_0$ . ו. טעות מסוג שני.
- ד.  $H_0: \mu = 2.3$   
 $H_1: \mu < 2.3$

## סטטיסטיקה ב

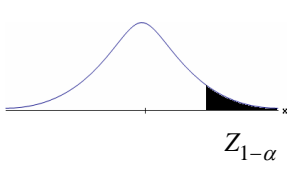
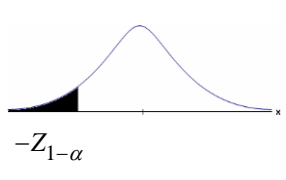
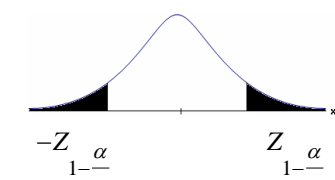
פרק 11 - בדיקת השערות על תוחלת (ממוצע)

תוכן העניינים

1. בדיקת השערות על תוחלת (ממוצע) כששונות האוכלוסיה ידועה. 55
2. סיכוי לטעויות ועוצמה (ששונות האוכלוסיה ידועה). 59
3. קביעת גודל מדגם (ששונות האוכלוסיה ידועה). 65
4. מובהקות תוצאה - אלפא מינימלית (ששונות האוכלוסיה ידועה). 68
5. בדיקת השערות על תוחלת ( ממוצע) כששונות האוכלוסיה לא ידועה. 73
6. מובהקות תוצאה - אלפא מינימלית (ששונות האוכלוסיה לא ידועה). 77
7. הקשר בין רווח סמך לבדיקת השערות על תוחלת (ממוצע). 80

## בדיקת השערות על תוחלת (ממוצע) כששונות האוכלוסייה ידועה:

רקע:

$H_0: \mu \leq \mu_0$ $H_1: \mu > \mu_0$	$H_0: \mu \geq \mu_0$ $H_1: \mu < \mu_0$	$H_0: \mu = \mu_0$ $H_1: \mu \neq \mu_0$	השערת האפס: השערה אלטרנטיבה:
1. $\sigma$ ידועה 2. $X \sim N$ או מדגם מספיק גדול			תנאים:
$Z_{\bar{x}} > Z_{1-\alpha}$	$Z_{\bar{x}} < -Z_{1-\alpha}$	$Z_{\bar{x}} < -Z_{1-\frac{\alpha}{2}}$ או $Z_{\bar{x}} > Z_{1-\frac{\alpha}{2}}$	כלל ההכרעה: אזור הדחייה של $H_0$ :
			
דוחים את $H_0$ ■	דוחים את $H_0$ ■	דוחים את $H_0$ ■	

$$Z_{\bar{x}} = \frac{\bar{X} - \mu_0}{\frac{\sigma}{\sqrt{n}}}$$

סטטיסטי המבחן:

חלופה אחרת לכלל הכרעה:

$\bar{X} > \mu_0 + Z_{1-\alpha} \cdot \frac{\sigma}{\sqrt{n}}$	$\bar{X} < \mu_0 - Z_{1-\alpha} \cdot \frac{\sigma}{\sqrt{n}}$	$\bar{X} > \mu_0 + Z_{1-\frac{\alpha}{2}} \cdot \frac{\sigma}{\sqrt{n}}$ או $\bar{X} < \mu_0 - Z_{1-\frac{\alpha}{2}} \cdot \frac{\sigma}{\sqrt{n}}$	נדחה $H_0$ אם מתקיים:
--	--	--	-----------------------

**דוגמה:**

יבול העגבניות מתפלג נורמלית עם תוחלת של 10 טון לדונם וסטיית תקן של 2.5 טון לדונם בעונה. משערים ששיטת זיבול חדשה תעלה את תוחלת היבול לעונה מבלי לשנות את סטיית התקן. נדגמו 4 חלקות שזובלו בשיטה החדשה. היבול הממוצע שהתקבל היה 12.5 טון לדונם. בדקו את ההשערה ברמת מובהקות של 1%.

**פיתרון:**

אוכלוסייה: עגבניות.

המשתנה:  $X =$  יבול העגבניות בטון לעונה.

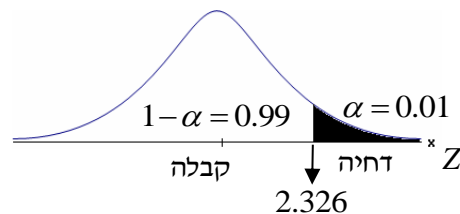
הפרמטר:  $\mu =$  תוחלת היבול בשיטת הזיבול החדשה.

השערות:  
 $H_0: \mu = 10$   
 $H_1: \mu > 10$

**תנאים:**

1.  $X \sim N$

2.  $\sigma = 2.5$

**כלל הכרעה:**

נדחה את  $H_0$  אם  $Z_{\bar{x}} > 2.326$

תוצאות:  $n = 4$ ,  $\bar{x} = 12.5$

סטטיסטי המבחן:  $Z_{\bar{x}} = \frac{\bar{X} - \mu_0}{\frac{\sigma}{\sqrt{n}}}$

נציב:  $Z_{\bar{x}} = \frac{1.25 - 10}{\frac{2.5}{\sqrt{4}}} = 2 < 2.326$

**מסקנה:**

לא נדחה  $H_0$  (נקבל  $H_0$ ).

ברמת מובהקות של 1% לא נוכל לקבל את הטענה ששיטת הזיבול החדשה מעלה את תוחלת היבול של העגבניות.

## שאלות:

- (1) ממוצע הציונים בבחינת הבגרות באנגלית הנו 72 עם סטיית תקן 15 נקודות. מורה טוען שפיתח שיטת לימוד חדשה שתעלה את ממוצע הציונים. משרד החינוך החליט לתת למורה 36 תלמידים אקראיים. ממוצע הציונים של אותם תלמידים לאחר שלמדו בשיטתו היה 75.5. בהנחה שגם בשיטתו סטיית התקן תהיה 15 מה מסקנתכם ברמת מובהקות של 5%?
- (2) לפי הצהרת היצרן של חברת משקאות מסוימת נפח הנוזל בבקבוק מתפלג נורמלית עם תוחלת 500 ס"מ<sup>3</sup> וסטיית תקן 20 ס"מ<sup>3</sup>. אגודת הצרכנים מתלוננת על הפחתת נפח המשקה בבקבוק מהכמות המוצהרת. במדגם שעשתה אגודת הצרכנים התקבל נפח ממוצע של 492 ס"מ<sup>3</sup> במדגם בגודל 25. א. מה מסקנתכם ברמת מובהקות של 2.5%? ב. האם ניתן לדעת מה תהיה המסקנה עבור רמת מובהקות הגבוהה מ-5%?
- (3) מהנדס האיכות מעוניין לבדוק אם מכונה מכיילת (מאופסת). המכונה כוונה לחתוך מוטות באורך 50 ס"מ. לפי נתוני היצרן סטיית התקן בחיתוך המוטות היא 0.5 ס"מ. במדגם של 50 מוטות התקבל ממוצע אורך המוט 50.93 ס"מ. מה מסקנתכם ברמת מובהקות של 5%?
- (4) המשקל הממוצע של הספורטאים בתחום ספורט מסוים הוא 90 ק"ג, עם סטיית תקן 8 ק"ג. לפי דעת מומחים בתחום יש צורך בהורדת המשקל ובשימוש בדיאטה מסוימת שצריכה להביא להורדת המשקל. לשם בדיקת יעילות הדיאטה נלקח מדגם מקרי של 50 ספורטאים ובתום שנה של שימוש בדיאטה התברר שהמשקל הממוצע במדגם זה היה 84 ק"ג. יש לבדוק בר"מ של 10%, האם הדיאטה גורמת להורדת המשקל.
- (5) לפי מפרט נתון, על עובי בורג להיות 4 מ"מ עם סטיית תקן של 0.2 מ"מ. במדגם של 25 ברגים העובי הממוצע היה 4.07 מ"מ. קבעו ברמת מובהקות 0.05, האם עובי הברגים מתאים למפרט. הניחו כי עובי של בורג מתפלג נורמלית וסטיית התקן של עובי בורג היא אכן 0.2 מ"מ.
- (6) במחקר נמצא שתוצאה היא מובהקת ברמת מובהקות של 5% מה תמיד נכון? בחרו בתשובה הנכונה.
- א. הגדלת רמת המובהקות לא תשנה את מסקנת המחקר.  
 ב. הגדלת רמת המובהקות תשנה את מסקנת המחקר.  
 ג. הקטנת רמת המובהקות לא תשנה את מסקנת המחקר.  
 ד. הקטנת רמת המובהקות תשנה את מסקנת המחקר.

(7) חוקר ערך מבחן דו צדדי ברמת מובהקות של  $\alpha$  והחליט לדחות את השערת האפס.

אם החוקר היה עורך מבחן צדדי ברמת מובהקות של  $\frac{\alpha}{2}$  אזי בהכרח:

- א. השערת האפס הייתה נדחית.
- ב. השערת האפס הייתה לא נדחית.
- ג. לא ניתן לדעת מה תהיה מסקנתו במקרה זה.

(8) שני סטטיסטיקאים בדקו השערות:  $H_0: \mu = \mu_0$  כנגד  $H_1: \mu > \mu_0$ ,

עבור שונות ידועה ובאותה רמת מובהקות.

שני החוקרים קבלו אותו ממוצע במדגם אך לחוקר א' היה מדגם בגודל 100 ולחוקר ב' מדגם בגודל 200.

- א. אם חוקר א' החליט לדחות את  $H_0$ , מה יחליט חוקר ב'? נמקו.
- ב. אם חוקר א' יחליט לא לדחות את  $H_0$ , מה יחליט חוקר ב'? נמקו.

### תשובות סופיות:

- (1) נקבל  $H_0$ , בר"מ של 5% לא נקבל את הטענה של המורה ששיטת הלימוד שלו מעלה את ממוצע הציונים.
- (2) א. נדחה  $H_0$ , בר"מ של 2.5% נקבל את תלונת אגודת הצרכנים בדבר הפחתת נפח המשקה בבקבוק.  
ב. הגדלנו את רמת המובהקות לכן אנחנו נשארים בדחייה של  $H_0$  והמסקנה לא תשתנה.
- (3) נדחה  $H_0$ , בר"מ של 5% נקבע שהמכונה לא מאופסת.
- (4) נדחה  $H_0$ , בר"מ של 0.1 נקבל את הטענה שהדיאטה יעילה ומפחיתה את המשקל הממוצע.
- (5) נקבל  $H_0$ , בר"מ של 0.05 נכריע שתוחלת עובי הבורג מתים למפרט.
- (6) א'.
- (7) ג'.
- (8) א. לדחות. ב. לא ניתן לדעת.

## סיכוי לטעויות ועוצמה (ששונות האוכלוסייה ידועה):

רקע:

		הכרעה	
		$H_0$	$H_1$
מציאות	$H_0$	אין טעות	טעות מסוג 1
	$H_1$	טעות מסוג 2	אין טעות

הגדרת הסתברויות:

הסיכוי לבצע טעות מסוג 1 (רמת מובהקות):

$$\alpha = P(H_0 \text{ לדחות את } H_0 \mid H_0 \text{ נכונה}) = P_{H_0}(H_0)$$

הסיכוי לבצע טעות מסוג 2:

$$\beta = P(H_0 \text{ לקבל את } H_0 \mid H_1 \text{ נכונה}) = P_{H_1}(H_0)$$

רמת בטחון:

$$(\alpha - 1) = P(H_0 \text{ לקבל את } H_0 \mid H_0 \text{ נכונה}) = P_{H_0}(H_0)$$

עוצמה:

$$(\beta - 1) = \pi = P(H_0 \text{ לדחות את } H_1 \mid H_1 \text{ נכונה}) = P_{H_1}(H_0)$$

**התהליך לחישוב סיכוי לטעות מסוג שני:**

השערת האפס: השערה אלטרנטיבה:	$H_0 : \mu = \mu_0$ $H_1 : \mu > \mu_0$	$H_0 : \mu = \mu_0$ $H_1 : \mu < \mu_0$	$H_0 : \mu = \mu_0$ $H_1 : \mu \neq \mu_0$
תנאים:	1. $\sigma$ ידועה 2. $X \sim N$ או מדגם מספיק גדול		
כלל ההכרעה: אזור הדחייה של $H_0$ :	$\bar{X} > \mu_0 + Z_{1-\alpha} \cdot \frac{\sigma}{\sqrt{n}}$	$\bar{X} < \mu_0 - Z_{1-\alpha} \cdot \frac{\sigma}{\sqrt{n}}$	$\bar{X} > \mu_0 + Z_{\frac{1-\alpha}{2}} \cdot \frac{\sigma}{\sqrt{n}}$ או $\bar{X} < \mu_0 - Z_{\frac{1-\alpha}{2}} \cdot \frac{\sigma}{\sqrt{n}}$
חישוב $\beta$ :	$P_{\mu_1} \left( \bar{X} < \mu_0 + Z_{1-\alpha} \cdot \frac{\sigma}{\sqrt{n}} \right)$	$P_{\mu_1} \left( \bar{X} > \mu_0 - Z_{1-\alpha} \cdot \frac{\sigma}{\sqrt{n}} \right)$	$P_{\mu_1} \left( \mu_0 - Z_{\frac{1-\alpha}{2}} \cdot \frac{\sigma}{\sqrt{n}} < \bar{X} < \mu_0 + Z_{\frac{1-\alpha}{2}} \cdot \frac{\sigma}{\sqrt{n}} \right)$

**התפלגות ממוצע המדגם:**  $\bar{X} \sim N \left( \mu, \frac{\sigma^2}{n} \right)$

**התקנון:**  $Z = \frac{\bar{x} - \mu}{\frac{\sigma}{\sqrt{n}}}$

**דוגמה:**

בתחילת השנה חשבון הטלפון הסלולארי הממוצע לאדם היה 200₪ עם סטיית תקן של 80₪ לחודש. בעקבות כניסתן של חברות טלפון סלולארית חדשות מעוניינים לבדוק האם כיום ממוצע חשבון הטלפון הסלולארי פחת. לצורך בדיקה דגמו באקראי 36 אנשים וחשבון הטלפון הסלולארי שלהם היה 150₪ בממוצע לחודש.

- רשמו את השערות המחקר ובנו כלל הכרעה במונחי חשבון ממוצע מדגמי ברמת מובהקות של 5%.
- מה מסקנתכם? איזה סוג טעות אפשרית במסקנה?
- נניח שבמציאות כיום החשבון הממוצע הוא 160₪. מה הסיכוי לבצע טעות מסוג שני?
- אם נקטין את רמת המובהקות מסעיף א', כיצד הדבר ישפיע על התשובה מסעיף ג'?

## פתרון:

א. אוכלוסייה: משלמי חשבון טלפון סלולאר כיום.

המשתנה:  $X =$  חשבון הטלפון החודשי בשקלים.

הפרמטר:  $\mu$ .

השערות:  
 $H_0: \mu = 200$   
 $H_1: \mu < 200$

תנאים:

1.  $\mu = 200$ .

2.  $n = 36$ .

$$\bar{X} < \mu_0 - Z_{1-\frac{\alpha}{2}} \cdot \frac{\sigma}{\sqrt{n}}, K = \mu_0 - Z_{1-\frac{\alpha}{2}} \cdot \frac{\sigma}{\sqrt{n}}$$

$$\alpha = 0.05$$

$$Z_{1-\alpha} = Z_{0.95} = 1.645$$

$$\text{נציב: שקלים } K = 200 - 1.645 \cdot \frac{80}{\sqrt{36}} = 178.07$$

כלל ההכרעה: דחה את  $H_0$  אם שקלים  $\bar{X} < 178.07$ .

ב. ברמת מובהקות של 5% נכריע שאכן ממוצע חשבון הטלפון הסלולרי פחת מתחילת השנה.

ג. השערות:  
 $H_0: \mu_0 = 200$   
 $H_1: \mu < 200$

כלל ההכרעה: נדחה את  $H_0$  אם  $\bar{X} < 178.07$ .

$$H_1: \bar{X} \sim N\left(160, \frac{80^2}{36}\right)$$

$$Z = \frac{178.07 - 160}{\frac{80}{\sqrt{36}}} = 1.36$$

$$\beta = P_{H_1}(\text{לקבל את } H_0) = P_{H_1}(\bar{X} > 178.07) = 1 - \phi(1.36) = 1 - 0.9131 = 0.0869$$

ד. הקטנת  $\alpha$  מגדילה את  $\beta$ .

## שאלות:

$$(1) \text{ נתון ש: } X \sim N(\mu, \sigma^2 = 1)$$

- להלן השערות של חוקר לגבי הפרמטר  $\mu$ :  $H_0: \mu = 5$ ,  $H_1: \mu = 7$ . מעוניינים ליצור כלל הכרעה המתבסס על הסמך תצפית בודדת כך שרמת המובהקות תהיה 5%.
- א. עבור אילו ערכים של  $X$  שידגם נדחית השערת  $H_0$ ?
- ב. מה הסיכוי לבצע טעות מסוג שני?
- ג. אם במדגם התקבל ש- $X = 6.9$  מה תהיה המסקנה ומה הטעות האפשרית?

- (2) לפי נתוני משרד הפנים בשנת 1980 למשפחה ממוצעת היה 2.3 ילדים למשפחה עם סטיית תקן 0.4. מעוניינים לבדוק אם כיום ממוצע מספר הילדים למשפחה קטן יותר. לצורך כך הוחלט לדגום 121 משפחות. במדגם התקבל ממוצע 2.17 ילדים למשפחה.
- א. רשמו כלל הכרעה במונחי ממוצע מדגם קריטי ברמת מובהקות של 5%.
- ב. בהמשך לסעיף א' מה תהיה המסקנה ומהי הטעות האפשרית במסקנה?
- ג. אם באמת ממוצע מספר הילדים במשפחה פחת לכדי 2.1 מהי העצמה של הכלל מסעיף א'?

- (3) להלן נתונים על תהליך של בדיקת השערות על תוחלת:

$$H_0: \mu = 200, H_1: \mu \neq 200, \sigma = 30, n = 225$$

- א. רשמו כלל הכרעה במונחי ממוצע מדגם קריטי וברמת מובהקות של 10%.
- ב. בהמשך לסעיף א', מהי העצמה אם התוחלת שווה ל-195?
- ג. הסבירו, ללא חישוב, איך העצמה תשתנה אם רמת המובהקות תהיה 5%?

- (4) מפעל לייצור צינורות מייצר צינור שקוטרו מתפלג נורמלית עם תוחלת של 50 מ"מ וסטית תקן של 6 מ"מ. במחלקת ביקורת האיכות דוגמים בכל יום 81 צינורות ומוודדים את קוטרים, בכדי לבדוק, בעזרת מבחן סטטיסטי, האם מכונת הייצור מכוילת כנדרש או שקוטר הצינורות קטן מהדרוש.
- א. רשמו את ההשערות ואת כלל ההכרעה ברמת מובהקות של 5%.
- ב. אם ביום כלשהו מכונת הייצור התקלקלה והיא מייצרת את הצינורות בקוטר שתוחלתו 48 מ"מ בלבד (סטית התקן לא השתנתה), מה ההסתברות שהתקלה לא תתגלה בביקורת האיכות? כיצד נקראת הסתברות זו?
- ג. הסבירו ללא חישוב כיצד התשובה לסעיף ב' תשתנה אם רמת המובהקות תגדל.
- ד. הסבירו ללא חישוב כיצד התשובה לסעיף ב' תשתנה אם התוחלת האמיתית היא 47 ולא 48 מ"מ.

- (5) להלן השערות של מחקר:  $H_0: \mu = 50$ ,  $H_1: \mu = 58$ . מעוניינים לדגום 100 תצפיות. ידוע שסטיית התקן של ההתפלגות הינה 20.
- בנו כלל הכרעה שהסיכוי לטעות מסוג שני בו הוא 10%. מהי רמת המובהקות?
  - כיצד הייתה משתנה רמת המובהקות אם (כל סעיף בפני עצמו)?
    - סטיית התקן הייתה יותר גדולה.
    - הסיכוי לטעות מסוג שני גדול יותר.

**השאלות שלהלן הן שאלות רב-ברירה, בחרו בתשובה הנכונה ביותר:**

- (6) אם חוקר החליט להגדיל את רמת המובהקות במחקר שלו אזי:
- הסיכוי לטעות מסוג ראשון גדל.
  - העוצמה של המבחן גדלה.
  - הסיכוי לטעות מסוג שני גדל.
  - תשובות א' ו-ב' נכונות.

- (7) חוקר ביצע מחקר ובו עשה טעות מסוג שני לכן:
- השערת האפס נכונה.
  - השערת האפס נדחתה.
  - השערת האפס לא נדחתה.
  - אף אחת מהתשובות לא נכונה בהכרח.

- (8) מה המצב הרצוי לחוקר המבצע בדיקת השערה:

$1 - \beta$	$\alpha$
גדולה	א. גדולה
קטנה	ב. גדולה
גדולה	ג. קטנה
קטנה	ד. קטנה

- (9) נערך שינוי בכלל ההחלטה של בדיקת השערה מסוימת ובעקבותיו אזור דחיית  $H_0$  קטן. כל שאר הגורמים נשארו ללא שינוי. כתוצאה מכך:
- הן  $\alpha$ , והן  $1 - \beta$ , יקטנו.
  - $\alpha$  יישאר ללא שינוי ואילו  $1 - \beta$  יגדל.
  - $\alpha$  יגדל ואילו  $1 - \beta$  יקטן.
  - הן  $\alpha$  והן  $1 - \beta$  יגדלו.

**10** ידוע כי לחץ דם תקין באוכלוסייה הוא 120. רופא מניח שלחץ הדם בקרב עיתונאים גבוה יותר מהממוצע באוכלוסייה. הוא לקח מדגם של 60 עיתונאים וקיבל ממוצע 137. על סמך המדגם, הוא בודק טענתו ברמת מובהקות 0.02 ומסיק שלחץ הדם בקרב העיתונאים אינו גבוה יותר. מה הטעות האפשרית שהרופא עושה?

- א. טעות מסוג ראשון.
- ב. טעות מסוג שני.
- ג. טעות מסוג שלישי.
- ד. אין טעות במסקנתו.

### תשובות סופיות:

- 1) א. מעל 6.645. ב. 0.3594.  
ג. דחינו את  $H_0$ , תתכן טעות מסוג ראשון.
- 2) א. נדחה  $H_0$  אם  $\bar{X} < 2.24$ . ב. נדחה  $H_0$  ג. 1.
- 3) א. נדחה  $H_0$  אם  $\bar{X} > 203.29$  או  $\bar{X} < 196.71$ . ב. 0.8051. ג. תקטן.
- 4) א. נדחה  $H_0$  אם  $\bar{X} < 48.9$ . ב. 0.0885. ג. תקטן. ד. תקטן.
- 5) א. 0.0033. ב. i. רמת המובהקות הייתה קטנה.  
ב. ii. רמת המובהקות הייתה גדלה.
- 6) ד'
- 7) ג'
- 8) ג'
- 9) א'
- 10) ב'

## קביעת גודל מדגם (ששונות האוכלוסייה ידועה):

### רקע:

השערות המחקר הן:  $H_0: \mu = \mu_0$ ,  $H_1: \mu = \mu_1$ .

סטיית התקן של האוכלוסייה ידועה  $\sigma$  ומעוניינים לבצע מחקר שרמת המובהקות לא תעלה על  $\alpha$  והסיכוי לטעות מסוג שני לא יעלה על  $\beta$ .

הנוסחה הבאה נותנת את גודל המדגם הרצוי:

$$n \geq \left( \frac{(Z_{1-\alpha} + Z_{1-\beta}) \times \sigma}{\mu_0 - \mu_1} \right)^2$$

### דוגמה:

משרד החינוך מפעיל בגן חובה שיטת חינוך שפותחה בשנת 1995. לפי שיטת חינוך זו תוחלת הציון במבחן אוצר מילים לגיל הרך הוא 70. אנשי חינוך החליטו לבדוק שיטת חינוך שפותחה בהולנד הנותנת שם תוחלת ציון אוצר מילים של 80. נניח שציוני מבחן זה מתפלגים נורמאלית עם  $\sigma = 17$ . כדי לבדוק האם גם בישראל הפעלת שיטת החינוך ההולנדית תעבוד בגנים, רוצים לבנות מחקר ברמת מובהקות של 5%. כמו כן, מעוניינים שאם בהפעלת השיטה ההולנדית תוחלת הציונים תעלה לכדי 80, המחקר יגלה זאת בסיכוי של 90%. כמה ילדי גן חובה דרושים למחקר?

### פתרון:

האוכלוסייה: ילדי גן חובה.

המשתנה:  $X =$  ציון במבחן אוצר מילים.

הפרמטר:  $\mu$ .

השערות:  
 $H_0: \mu = 70$   
 $H_1: \mu = 80$

$X \sim N(\mu, \sigma^2 = 17^2)$

אם בהפעלת השיטה ההולנדית התוחלת תעלה ל-80, נגלה זאת בסיכוי 90%.

$$n \geq \left( \frac{(Z_{1-\alpha} + Z_{1-\beta}) \times \sigma}{\mu_0 - \mu_1} \right)^2$$

$$\alpha = 0.05$$

$$1 - \beta = 0.9$$

$$\mu_0 = 70$$

$$\mu_1 = 80$$

$$\sigma = 17$$

$$Z_{1-\alpha} = Z_{0.95} = 1.645$$

$$Z_{1-\beta} = Z_{0.9} = 1.282$$

$$n \geq \left( \frac{(1.645 + 1.282) \times 17}{70 - 80} \right)^2 = 24.76 \quad \text{נציב:}$$

$$\text{לכן, } n_{\min} = 25$$

## שאלות:

(1) במבחן אינטליגנציה הציונים מתפלגים נורמאלית עם סטיית תקן 8 וממוצע 100. פסיכולוג מעוניין לבדוק את הטענה שבאוכלוסיות במצב סוציו אקונומי נמוך תוחלת הציונים היא 95. אם מעוניינים לגלות את הטענה בהסתברות של לפחות 99% כשרמת המובהקות היא 5% מהו גודל המדגם הדרוש?

(2) משרד התקשורת טוענים שאדם מדבר בממוצע 180 דקות בחודש בטלפון הסלולרי. חברות הטלפון הסלולרי טוענות שאינפורמציה זו אינה נכונה ואדם מדבר בממוצע פחות: כ-160 דקות. לצורך פתרון נניח שסטיית התקן של זמן השיחה החודשי ידוע ושווה ל-60 דקות. כמה אנשים יש לדגום כך שאם טענת משרד התקשורת נכונה נדחה אותה בסיכוי של 5% (איך קוראים להסתברות זאת?) כמו כן אם טענת חברות הטלפון הסלולרית נכונה המחקר יגלה זאת בסיכוי של 90% (איך קוראים להסתברות זאת?).

(3) השערות המחקר הן:  $H_0: \mu = \mu_0$ ,  $H_1: \mu = \mu_1$ .

כמו כן נתון שהמשתנה מתפלג נורמלית עם סטיית התקן ידועה  $\sigma$  מעוניינים לבצע מחקר שרמת המובהקות לא תעלה על  $\alpha$  והסיכוי לטעות מסוג שני לא

יעלה על  $\beta$ . הוכיחו שגודל המדגם הרצוי לכך יהיה: 
$$n \geq \left( \frac{(Z_{1-\alpha} + Z_{1-\beta}) \times \sigma}{\mu_0 - \mu_1} \right)^2$$

## תשובות סופיות:

(1) 41.

(2) 78.

(3) שאלת הוכחה.

## מובהקות תוצאה – אלפא מינימלית (ששונות האוכלוסייה ידועה):

### רקע:

דרך נוספת להגיע להכרעות שלא דרך כלל הכרעה, היא דרך חישוב מובהקות התוצאה:

באמצעות תוצאות המדגם מחשבים את מובהקות התוצאה שמסומן ב- $p_v$ . את רמת המובהקות החוקר קובע מראש לעומת זאת, את מובהקות התוצאה החוקר יוכל לחשב רק אחרי שיהיו לו את התוצאות.

המסקנה של המחקר תקבע לפי העיקרון הבא: אם  $p_v \leq \alpha$ , דוחים את  $H_0$ . מובהקות התוצאה זה הסיכוי לקבלת תוצאות המדגם וקיצוני מתוצאות אלה בהנחת השערת האפס.

(לקבל את תוצאות המדגם וקיצוני)  $p_v = P_{H_0}$ .

אם ההשערה היא דו צדדית:

(לקבל את תוצאות המדגם וקיצוני)  $p_v = 2P_{H_0}$ .

מובהקות התוצאה היא גם האלפא המינימלית לדחיית השערת האפס.

$H_0: \mu = \mu_0$ $H_1: \mu > \mu_0$	$H_0: \mu = \mu_0$ $H_1: \mu < \mu_0$	$H_0: \mu = \mu_0$ $H_1: \mu \neq \mu_0$	השערת האפס: השערה אלטרנטיבה:
1. $\sigma$ ידועה			תנאים:
2. $X \sim N$ או מדגם מספיק גדול			
$P_{H_0}(\bar{X} \geq \bar{x})$	$P_{H_0}(\bar{X} \leq \bar{x})$	אם $2 \cdot P_{H_0}(\bar{X} \geq \bar{x}) \leftarrow \bar{x} > \mu_0$ אם $2 \cdot P_{H_0}(\bar{X} \leq \bar{x}) \leftarrow \bar{x} < \mu_0$	p-value

$$Z_{\bar{x}} = \frac{\bar{x} - \mu_0}{\frac{\sigma}{\sqrt{n}}}, \quad \bar{X} \sim N\left(\mu_0, \frac{\sigma^2}{n}\right) \quad \text{כאשר בהנחת השערת האפס:}$$

**דוגמה:**

המשקל הממוצע של מתגייסים לצבא לפני 20 שנה היה 65 ק"ג. מחקר מעוניין לבדוק האם כיום המשקל הממוצע של מתגייסים גבוה יותר. נניח שמשקל המתגייסים מתפלג נורמאלית עם סטיית תקן של 12 ק"ג. במדגם של 16 מתגייסים התקבל משקל ממוצע של 71 ק"ג.

א. מהי מובהקות התוצאה?

ב. מה המסקנה אם רמת המובהקות היא 5% ואם רמת המובהקות היא 1%?

**פתרון:**

א. אוכלוסייה: המתגייסים לצבא כיום.

משתנה:  $X =$  משקל בק"ג.

פרמטר:  $\mu$ .

$$H_0: \mu = 65$$

השערות:  $H_1: \mu > 65$

תנאים:

$$1. X \sim N$$

$$2. \sigma = 12$$

תוצאות מדגם:

$$n = 16$$

$$\bar{X} = 71$$

$$P_V = P_{H_0} \left( \begin{array}{c} \text{לתוצאות} \\ \text{המדגם} \\ \text{וקיצוני} \end{array} \right) = P_{H_0} (\bar{X} \geq 71) = 1 - \phi(2) = 1 - 0.9772 = 0.0228$$

$$Z_{\bar{x}} = \frac{\bar{x} - \mu_0}{\frac{\sigma}{\sqrt{n}}} = \frac{71 - 65}{\frac{12}{\sqrt{16}}} = 2$$

$$\alpha_{\min} = 0.0228$$

## שאלות:

- (1) להלן השערות של מחקר:  $H_0: \mu = 70$ ,  $H_1: \mu > 70$ . המשתנה הנחקר מתפלג נורמלית עם סטיית תקן 20. במדגם מאותה אוכלוסייה התקבלו התוצאות הבאות:  $n = 100$ ,  $\bar{x} = 74$ . מהי מובהקות התוצאה?
- (2) השכר הממוצע במשק בשנת 2012 היה 8800 ₪ עם סטיית תקן 2000. במדגם שנעשה אתמול על 100 עובדים התקבל שכר ממוצע 9500 ₪. מטרת המחקר היא לבדוק האם כיום חלה עליה בשכר. עבור אילו רמות מובהקות שיבחר החוקר יוחלט שחלה עליה בשכר הממוצע במשק?
- (3) אדם חושד שחברת ממתקים לא עומדת בהתחייבויותיה, ומשקלו של חטיף מסוים אותו הוא קונה מדי בוקר נמוך מ-100 גרם. חברת הממתקים טוענת מצידה שהיא אכן עומדת בהתחייבויותיה. ידוע כי סטיית התקן של משקל החטיף היא 12 גרם. האדם מתכוון לשקול 100 חפיסות חטיפים ולאחר מכן להגיע להחלטה. לאחר הבדיקה הוא קיבל משקל הממוצע של 98.5 גרם.
- א. רשמו את השערות המחקר.  
 ב. מהי רמת המובהקות המינימלית עבורה דוחים את השערת האפס?  
 ג. מהי רמת המובהקות המקסימלית עבורה נקבל את השערת האפס?  
 ד. מה המסקנה ברמת מובהקות של 5?
- (4) מכונה לחיתוך מוטות במפעל חותכת מוטות באורך שמתפלג נורמלית עם תוחלת אליה כוונה המכונה וסטיית תקן 2 ס"מ. ביום מסוים כוונה המכונה לחתוך מוטות באורך 80 ס"מ. אחראי האיכות מעוניין לבדוק האם המכונה מכוילת. לצורך כך נדגמו מקו הייצור 16 מוטות שנחתכו אורכן הממוצע היה 81.7 ס"מ.
- א. מהי רמת המובהקות המינימלית עבורה נכריע שהמכונה לא מכוילת?  
 ב. אם נוסיף עוד תצפית שערכה יהיה 82 ס"מ, כיצד הדבר ישפיע על התשובה של הסעיף הקודם?  
 ג. הכרע ברמת מובהקות של 5% האם המכונה מכוילת.
- (5) אם מקבלים בחישובים אלפא מינימלית (P value) קטנה מאד, סביר להניח כי החוקר ידחה את השערת האפס בקלות. נכון/לא נכון? נמק.

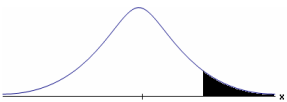

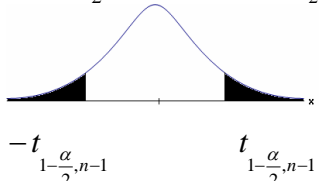
- 6) בבדיקת השערות התקבל שה-  $p\text{-value} = 0.02$ .  
 מה תהיה מסקנת חוקר המשתמש ברמת מובהקות 1%?  
 בחרו בתשובה הנכונה.
- א. יקבל את השערת האפס בכל מקרה.
  - ב. ידחה את השערת האפס מקרה.
  - ג. ידחה את השערת האפס רק אם המבחן הנו דו צדדי.
  - ד. לא ניתן לדעת כי אין מספיק נתונים.
- 7) מובהקות התוצאה (PV) היא גם (בחרו בתשובה הנכונה):
- א. רמת המובהקות המינימאלית לדחות השערת האפס.
  - ב. רמת המובהקות המקסימאלית לדחיית השערת האפס.
  - ג. רמת המובהקות שנקבעת מראש על ידי החוקר שטרם קיבל את תוצאות המחקר.
  - ד. רמת המובהקות המינימאלית לאי דחיית השערת האפס.
- 8) בבדיקת השערות מסוימת התקבל:  $p\text{ value} = 0.0254$  לכן (בחרו בתשובה הנכונה):
- א. ברמת מובהקות של 0.01 אך לא של 0.05 נדחה את  $H_0$ .
  - ב. ברמת מובהקות של 0.01 ושל 0.05 לא נדחה את  $H_0$ .
  - ג. ברמת מובהקות של 0.05 אך לא של 0.01 נדחה את  $H_0$ .
  - ד. ברמת מובהקות של 0.01 ושל 0.05 נדחה את  $H_0$ .

### תשובות סופיות:

- (1) 0.0228.
- (2) עבור כל רמת מובהקות סבירה.
- (3) א.  $H_0: \mu = 100$   
 $H_1: \mu < 100$   
 ב. 0.1056. ג. 0.1056.
- ד. נכריע שיש עמידה בהתחייבות של החברה.
- (4) א. 0.0006. ב. יקטן. ג. נכריע שאין כיול.
- (5) נכון.
- (6) א'.
- (7) א'.
- (8) ג'.

## בדיקת השערות על תוחלת (ממוצע) כששונות האוכלוסייה לא ידועה:

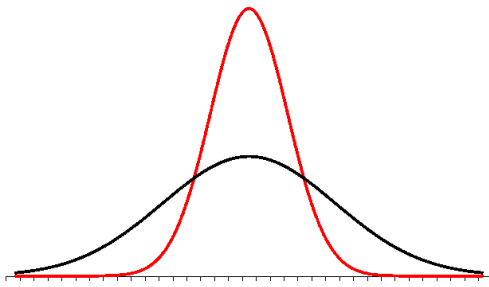
רקע:

$H_0 : \mu = \mu_0$ $H_1 : \mu > \mu_0$	$H_0 : \mu = \mu_0$ $H_1 : \mu < \mu_0$	$H_0 : \mu = \mu_0$ $H_1 : \mu \neq \mu_0$	השערת האפס: השערה אלטרנטיבה:
1. $\sigma$ אינה ידועה 2. $X \sim N$ או מדגם מספיק גדול			תנאים:
$t_{\bar{x}} > t_{1-\alpha}^{(n-1)}$  $t_{1-\alpha, n-1}$ - דוחים את $H_0$	$t_{\bar{x}} < -t_{1-\alpha}^{(n-1)}$  $-t_{1-\alpha, n-1}$ - דוחים את $H_0$	$t_{\bar{x}} < -t_{1-\frac{\alpha}{2}}^{(n-1)}$ או $t_{\bar{x}} > t_{1-\frac{\alpha}{2}}^{(n-1)}$  $-t_{1-\frac{\alpha}{2}, n-1}$ $t_{1-\frac{\alpha}{2}, n-1}$ - דוחים את $H_0$	כלל ההכרעה: אזור הדחייה של $H_0$ :
$\bar{X} > \mu_0 + t_{1-\alpha}^{n-1} \cdot \frac{S}{\sqrt{n}}$	$\bar{X} < \mu_0 - t_{1-\alpha}^{n-1} \cdot \frac{S}{\sqrt{n}}$	$\bar{X} > \mu_0 + t_{1-\frac{\alpha}{2}}^{n-1} \cdot \frac{S}{\sqrt{n}}$ או $\bar{X} < \mu_0 - t_{1-\frac{\alpha}{2}}^{n-1} \cdot \frac{S}{\sqrt{n}}$	חלופה לכלל הכרעה: נדחה $H_0$ אם מתקיים:

$$t_{\bar{x}} = \frac{\bar{x} - \mu_0}{\frac{S}{\sqrt{n}}}$$

סטטיסטי המבחן:

$$S^2 = \frac{\sum_{i=1}^n (X_i - \bar{X})^2}{n-1} = \frac{\sum_{i=1}^n X_i^2 - n\bar{X}^2}{n-1}$$



### התפלגות T:

הינה התפלגות סימטרית פעמונית שהתוחלת שלה היא 0. ההתפלגות דומה להתפלגות Z רק שהיא יותר רחבה ולכן הערכים שלה יהיו יותר גבוהים. התפלגות T תלויה במושג שנקרא דרגות חופש.

דרגות החופש הן:  $df = n - 1$ .

ככל שדרגות החופש עולות ההתפלגות הופכת להיות יותר גבוהה וצרה. כשדרגות החופש שואפות לאינסוף התפלגות T שואפת להיות כמו התפלגות Z.

### דוגמה (פתרון בהקלטה):

מפעל קיבל הזמנה לייצור משטחים בעובי של 0.1 ס"מ. כדי לבדוק האם המפעל עומד בדרישה נדגמו 10 משטחים ונמצא שהעובי הממוצע הוא 0.104 עם אומדן לסטיית תקן 0.002 ס"מ.

א. מהן השערות המחקר?

ב. מה ההנחה הדרושה לצורך פתרון?

ג. בדוק ברמת מובהקות של 5%.

## שאלות:

(1) משך זמן ההחלמה בלקיחת אנטיביוטיקה מסוימת הוא 120 שעות בממוצע עם סטיית תקן לא ידועה. מעוניינים לבדוק האם אנטיביוטיקה אחרת מקטינה את משך זמן ההחלמה. במדגם של 5 חולים שלקחו את האנטיביוטיקה האחרת התקבלו זמני ההחלמה הבאים: 90, 95, 100, 80, 125 שעות. מה מסקנתכם ברמת מובהקות של 5%. מהי ההנחה הדרושה לצורך הפתרון?

(2) משרד הבריאות פרסם שמשקל ממוצע של תינוקות ביום היוולדם בישראל 3300 גר'. משרד הבריאות רוצה לחקור את הטענה ששנים מעשנות בזמן ההיריון יולדות תינוקות במשקל נמוך מהממוצע. במחקר השתתפו 20 נשים מעשנות בהריון. להלן תוצאות המדגם שבדק את המשקל של התינוקות בעת הלידה:

$$n = 20$$

$$\bar{x} = 3120$$

$$S = 280$$

מה מסקנתכם ברמת מובהקות של 5% מה יש להניח לצורך פתרון?

(3) ציוני מבחן אינטליגנציה מתפלגים נורמלית. בארה"ב ממוצע הציונים הוא 100. במדגם שנעשה על 23 נבחנים ישראלים, התקבל ממוצע ציונים 104.5 וסטיית התקן המדגמית 16. האם בישראל ממוצע הציונים שונה מארה"ב? הסיקו ברמת מובהקות של 5%.

(4) באוכלוסייה מסוימת נדגמו 10 תצפיות והתקבלו התוצאות הבאות:

$$\sum_{i=1}^{10} X_i = 750$$

$$\sum_{i=1}^{10} (X_i - \bar{X})^2 = 900$$

נתון שההתפלגות היא נורמלית.

בדוק ברמת מובהקות של 5% האם התוחלת של ההתפלגות שונה מ-80.

- (5) ליאור ורוני העלו את אותן השערות על ממוצע האוכלוסייה. כמו כן הם התבססו על אותן תוצאות של מדגם. ליאור השתמש בטבלה של התפלגות  $Z$ . רוני השתמשה בטבלה של התפלגות  $t$ . מה נוכל לומר בנוגע להחלטת המחקר שלהם? בחר בתשובה הנכונה.
- אם ליאור ידחה את השערת האפס אז גם בהכרח רוני.
  - אם רוני תדחה את השערת האפס אז גם בהכרח ליאור.
  - שני החוקרים בהכרח יגיעו לאותה מסקנה.
  - לא ניתן לדעת על היחס בין דחיית השערת האפס של שני החוקרים.

- (6) נתון ש:  $X \sim N(\mu, \sigma^2)$  כמו כן נתונות ההשערות הבאות:  $H_0: \mu = \mu_0$  ,  $H_1: \mu < \mu_0$
- חוקר בדק את ההשערות הללו על סמך מדגם שכלל 10 תצפיות.  $\sigma^2$  לא הייתה ידועה לחוקר. החוקר החליט לדחות את השערת האפס ברמת מובהקות של 5% לאחר מכן כדי לחזק את קביעתו הוא דגם עוד 5 תצפיות ושקלל את תוצאות אלה גם למדגם כך שכלל עכשיו 15 תצפיות. בחר בתשובה הנכונה:
- כעת בברור הוא ידחה את השערת האפס.
  - כעת הוא דווקא יקבל את השערת האפס.
  - כעת לא ניתן לדעת מה תהיה מסקנתו.

### תשובות סופיות:

- (1) נדחה  $H_0$ .
- (2) נדחה  $H_0$ .
- (3) נקבל  $H_0$ .
- (4) נקבל  $H_0$ .
- (5) ב'.
- (6) ג'.

## מובהקות תוצאה – אלפא מינימלית (ששונות האוכלוסייה לא ידועה):

### רקע:

נוכיר שהמסקנה של המחקר תיקבע לפי העיקרון הבא: אם  $p_v \leq \alpha$  דוחים את  $H_0$ . מובהקות התוצאה היא הסיכוי לקבלת תוצאות המדגם וקיצוני מתוצאות אלה בהנחת השערת האפס.

·  $p_v = P_{H_0}$  (לקבל את תוצאות המדגם וקיצוני)

אם ההשערה היא דו צדדית:

·  $p_v = 2P_{H_0}$  (לקבל את תוצאות המדגם וקיצוני)

מובהקות התוצאה היא גם האלפא המינימלית לדחיית השערת האפס.

$H_0 : \mu = \mu_0$ $H_1 : \mu > \mu_0$	$H_0 : \mu = \mu_0$ $H_1 : \mu < \mu_0$	$H_0 : \mu = \mu_0$ $H_1 : \mu \neq \mu_0$	השערת האפס: השערה אלטרנטיבה:
1. אינה ידועה או 2. מדגם מספיק גדול $X \sim N$			תנאים:
$P_{H_0}(\bar{X} \geq \bar{x})$	$P_{H_0}(\bar{X} \leq \bar{x})$	אם $2 \cdot P_{H_0}(\bar{X} \geq \bar{x}) \leftarrow \bar{x} > \mu_0$ אם $2 \cdot P_{H_0}(\bar{X} \leq \bar{x}) \leftarrow \bar{x} < \mu_0$	p-value

$$t_{\bar{x}} = \frac{\bar{x} - \mu_0}{\frac{S}{\sqrt{n}}}$$

$$S^2 = \frac{\sum_{i=1}^n (X_i - \bar{X})^2}{n-1} = \frac{\sum_{i=1}^n X_i^2 - n\bar{X}^2}{n-1}$$

$$d.f = n - 1$$

**דוגמה:**

ממוצע זמן הנסיעה של אדם לעבודה הינו 40 דקות. הוא מעוניין לבדוק דרך חלופית שאמורה להיות יותר מהירה. לצורך כך הוא דוגם 5 ימים שבהם הוא נוסע בדרך החלופית. זמני הנסיעה שקיבל בדקות הם: 34, 40, 30, 32, 27. הניחו שזמן הנסיעה מתפלג נורמלית.

- רשמו את השערות המחקר.
- מצאו חסמים למובהקות התוצאה.
- מה המסקנה ברמת מובהקות של 5%?

**פתרון:**

אוכלוסייה: כלל הנסיעות לעבודה בדרך החלופית.

משתנה:  $X =$  זמן נסיעה בדקות.

תנאים:  $X \sim N$ .

פרמטר:  $\mu$ .

א. השערות:  
 $H_0: \mu = 40$   
 $H_1: \mu < 40$

ב. תוצאות המדגם:

$$n = 5, \bar{X} = \frac{\sum X_i}{n} = \frac{34 + 40 + \dots}{5} = 32.6$$

$$S^2 = \frac{\sum X_i^2 - n \cdot \bar{X}^2}{n-1} = \frac{34^2 + 40^2 - \dots - 5 \cdot 32.6^2}{5-1} = 23.4$$

$$S = \sqrt{23.4}$$

$$t_{\bar{X}} = \frac{\bar{X} - \mu_0}{\frac{S}{\sqrt{n}}} = \frac{32.6 - 40}{\frac{4.88}{\sqrt{5}}} = -3.39$$

$$P_V = P_{H_0} = ( \bar{X} \leq 32.6 ) = P(t \leq -3.39)$$

$$d.f = 5 - 1 = 4$$

$$1\% < P_V < 2.5\%$$

$P_V < \alpha = 0.05$ , לכן דוחים את  $H_0$ .

מסקנה: בר"מ של 5% נכריע שהדרך החלופית מהירה יותר.

## שאלות:

- (1) קו ייצור אריזות סוכר נארזות כך שהמשקל הממוצע של אריזות הסוכר צריך להיות אחד קילוגרם. בכל יום דוגמים מקו הייצור 5 אריזות במטרה לבדוק האם קו הייצור תקין. בבדיקה דגמו 5 אריזות סוכר ולהלן משקלן בגרמים: 1024, 1008, 1005, 996, 997.
- א. רשמו את השערות המחקר.  
 ב. מהי מובהקות התוצאה? הצג חסמים.  
 ג. מה המסקנה ברמת מובהקות של 5%?
- (2) חוקר בדק את הטענה כי פועלים העובדים במשמרת לילה איטיים יותר מפועלים העובדים ביום. ידוע כי משך הזמן הממוצע הדרוש לייצר מוצר מסוים ביום הוא 6 שעות. במדגם מיקרי של 25 פועלים שעבדו במשמרת לילה נמצא כי הזמן הממוצע לייצר אותו מוצר הוא 7 שעות עם סטית תקן של 3 שעות.
- מהי ה- $\alpha$  המינימלית שלפיה ניתן להחליט שאכן העובדים במשמרת לילה איטיים יותר?
- (3) הגובה של מתגייסים לצה"ל מתפלג נורמלית. במדגם של 25 מתגייסים מדדו את הגבהים שלהם בס"מ והתקבלו התוצאות הבאות:
- $$\bar{x} = 176.2, \sum (x_i - \bar{x})^2 = 2832$$
- מטרת המחקר היא לבדוק האם תוחלת הגבהים של המתגייסים גבוה מ-174 ס"מ באופן מובהק.
- מהי בקרוב מובהקות התוצאה ועל פיה מה תהיה המסקנה ברמת מובהקות של 6%?

## תשובות סופיות:

- (1) א.  $H_0: \mu = 1000$   
 ב.  $20\% \leq P_v \leq 50\%$   
 ג. ברמת מובהקות של 5% לא נוכל לקבוע שקו הייצור אינו תקין.
- (2) 10%
- (3) 1.01, נקבל את  $H_0$ .

## הקשר בין רווח סמך לבדיקת השערות על תוחלת (ממוצע):

### רקע:

ניתן לבצע בדיקת השערות דו צדדית ברמת מובהקות  $\alpha$  על  $\mu$  :

$$H_0 : \mu = \mu_0 , H_1 : \mu \neq \mu_0$$

על ידי בניית רווח סמך ברמת סמך של  $1-\alpha$  ל- $\mu$  :

אם  $\mu_0$  נופל ברווח  $\leftarrow$  נקבל את  $H_0$  .

אם  $\mu_0$  לא נופל ברווח  $\leftarrow$  נדחה את  $H_0$  .

### דוגמה:

חוקר ביצע בדיקת השערות לתוחלת. להלן השערותיו :

$$H_0 : \mu = 80 , H_1 : \mu \neq 80 , \alpha = 5\%$$

החוקר בנה רווח סמך ברמה של 90% וקיבל:  $79 < \mu < 84$  .

האם אפשר לדעת מה מסקנתו, ואם כן מהי?

### פתרון (פתרון מלא בהקלטה):

רווח הסמך ברמת סמך של 90% מכיל "80".

ברמת סמך של 95% רווח הסמך יגדל ויכיל "80".

לכן, ברמת מובהקות של 5% נקבל  $H_0$  .

## שאלות:

- (1) חוקר רצה לבדוק את ההשערות הבאות:  $H_0: \mu = 90$ ,  $H_1: \mu \neq 90$ . החוקר בנה רווח סמך לתוחלת ברמת סמך של 95% וקיבל את רווח הסמך הבא: (87, 97). אם החוקר מעוניין לבצע בדיקת השערות ברמת מובהקות של 1% האם ניתן להגיע למסקנה ע"ס רווח הסמך? נמקו.
- (2) חוקר מעוניין לבדוק השפעת דיאטה חדשה על רמת הסוכר בדם. ידוע כי מספר מיליגרם הסוכר בסמ"ק דם הוא משתנה מקרי שמתפלג נורמלית עם סטיית תקן 10.4 מ"ג. נלקח מדגם של 60 נבדקים שניזונו מדיאטה זו. נמצא כי ממוצע מספר המיליגרם סוכר היה 115.5 מ"ג לסמ"ק.
- א. בנה רווח סמך ברמת סמך 95% לתוחלת רמת הסוכר בדם אצל הניזונים מדיאטה זו.
- ב. ידוע שתוחלת רמת הסוכר בדם באוכלוסיה היא 90 מ"ג לסמ"ק. האם לדעתך ניתן להסיק על סמך תוצאת סעיף א שהדיאטה משפיעה על רמת הסוכר בדם? הסבירו.
- (3) יצרן אנטיביוטיקה רושם על גבי התרופות שכמות הפנצילין היא 200 מ"ג לקפסולה. משרד הבריאות ביצע מדגם של 8 קפסולות אקראיות מקו הייצור ומצא שבממוצע יש 196 מ"ג פנצילין לקפסולה עם סטיית תקן מדגמית של 5 מ"ג. בהנחה וכמות הפנצילין בקפסולה מתפלגת נורמלית.
- א. בנו רווח סמך ברמת סמך של 95% לממוצע כמות הפנצילין לקפסולה המיוצרת על ידי יצרן האנטיביוטיקה.
- ב. בדקו ברמת מובהקות של 5% האם יש אמת באינפורמציה המסופקת על ידי היצרן.

## תשובות סופיות:

- (1) נקבל השערת.
- (2) א.  $112.87 \leq \mu \leq 118.13$ .
- ב. נכריע שהדיאטה משפיעה על תוחלת רמת הסוכר בדם.
- (3) א.  $191.8 \leq \mu \leq 200.2$ . ב. נכריע שיש אמת בפרסום.

## סטטיסטיקה ב

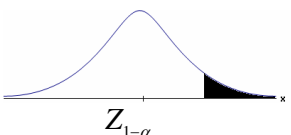
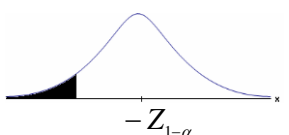
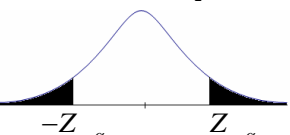
פרק 12 - בדיקת השערות על פרופורציה

תוכן העניינים

82	1. התהליך
85	2. סיכוי לטעויות ועוצמה
89	3. קביעת גודל מדגם
91	4. מובהקות התוצאה - אלפא מינימלית

## התהליך:

רקע:

$H_0 : p = p_0$ $H_1 : p > p_0$	$H_0 : p = p_0$ $H_1 : p < p_0$	$H_0 : p = p_0$ $H_1 : p \neq p_0$	השערת האפס: השערה אלטרנטיבית:
$np_0 \geq 5 \text{ \& } n(1-p_0) \geq 5$			תנאים:
$Z_{\hat{p}} > Z_{1-\alpha}$  $Z_{1-\alpha}$ דוחים את $H_0$	$Z_{\hat{p}} < -Z_{1-\alpha}$  $-Z_{1-\alpha}$ דוחים את $H_0$	$Z_{\hat{p}} < -Z_{1-\frac{\alpha}{2}}$ או $Z_{\hat{p}} > Z_{1-\frac{\alpha}{2}}$  $-Z_{1-\frac{\alpha}{2}}$ $Z_{1-\frac{\alpha}{2}}$ דוחים את $H_0$	כלל הכרעה: אזור הדחייה של $H_0$

$$Z_{\hat{p}} = \frac{\hat{p} - p_0}{\sqrt{\frac{p_0(1-p_0)}{n}}} \quad \text{סטטיסטי המבחן:}$$

חלופה אחרת לכלל הכרעה:

כלל הכרעה – אזור הדחייה של $H_0$ :		
$\hat{p} > p_0 + Z_{1-\alpha} \cdot \sqrt{\frac{p_0(1-p_0)}{n}}$	$\hat{p} < p_0 - Z_{1-\alpha} \cdot \sqrt{\frac{p_0(1-p_0)}{n}}$	$\hat{p} > p_0 + Z_{1-\frac{\alpha}{2}} \cdot \sqrt{\frac{p_0(1-p_0)}{n}}$ $\hat{p} < p_0 - Z_{1-\frac{\alpha}{2}} \cdot \sqrt{\frac{p_0(1-p_0)}{n}}$

דוגמה (פתרון בהקלטה):

בחודש ינואר השנה פורסם שאחוז האבטלה במשק הוא 8% במדגם עכשווי התקבל שמתוך 200 אנשים 6.5% מובטלים. בדקו ברמת מובהקות של 5% האם כיום אחוז האבטלה הוא כמו בתחילת השנה.

## שאלות:

- (1) במשך שנים אחוז המועמדים שהתקבל לפקולטה מסוימת היה 25%. השנה מתוך מדגם של 120 מועמדים התקבלו 22. ברמת מובהקות של 5% האם השנה הקשו על תנאי הקבלה?
- (2) במדגם של 300 אזרחים 57% מתנגדים להצעת חוק מסוימת. לאור נתונים אלה האם רוב האזרחים מתנגדים להצעת החוק? בדקו ברמת מובהקות של 10%.
- (3) הטילו מטבע 50 פעמים וקיבלו 28 פעמים עץ. האם המטבע הוגן ברמת מובהקות של 5%?
- (4) קפיטריה במכללה מסוימת מעריכה כי אחוז הסטודנטים שקונים קפה בקפיטריה הינו 20%. נערך סקר אשר כלל 200 סטודנטים. התברר כי 33 מהם רוכשים קפה בקפיטריה. מטרת הסקר הייתה לבדוק את אמיתות הערכה של הקפיטריה.  
 א. רשמו את ההשערות.  
 ב. בדקו את ההשערות ברמת מובהקות של 10%.  
 ג. מה תהיה המסקנה אם נקטין את רמת המובהקות?
- (5) חבר כנסת רוצה להעביר חוק. לצורך כך הוא דוגם 400 אזרחים במטרה לבדוק האם רוב האזרחים תומכים בחוק. במדגם התקבל ש-276 אזרחים תומכים בחוק.  
 א. מה מסקנתכם ברמת מובהקות של 5%?  
 ב. האם ניתן לדעת מה תהיה המסקנה אם רמת המובהקות תהיה גדולה יותר? הסבירו.
- (6) שני חוקרים בדקו את ההשערות הבאות:  $H_0: p = p_0$ ,  $H_1: p > p_0$ . חוקר א' השתמש ברמת מובהקות  $\alpha_1$  וחוקר ב' ברמת מובהקות  $\alpha_2$  החוקר הראשון דחה את  $H_0$  ואילו החוקר השני קיבל את  $H_0$ . שניהם התבססו על אותם תוצאות של מדגם. בחר בתשובה הנכונה:  
 א.  $\alpha_1 = \alpha_2$ .  
 ב.  $\alpha_1 > \alpha_2$ .  
 ג.  $\alpha_1 < \alpha_2$ .  
 ד. המצב המתואר לא אפשרי.

### תשובות סופיות:

- (1) נדחה  $H_0$ .
- (2) נדחה  $H_0$ .
- (3) נקבל  $H_0$ .
- (4) א.  $H_0: p = 0.2$   
 ב.  $H_1: p \neq 0.2$   
 ג. המסקנה לא תשתנה.
- (5) א. נדחה  $H_0$ .  
 ב. המסקנה לא תשתנה.
- (6) ג'.

## סיכוי לטעויות ועוצמה:

רקע:

הגדרת הסתברויות:

הסיכוי לבצע טעות מסוג 1 (רמת מובהקות):

$$\alpha = P(H_0 \text{ לדחות את } H_0 \mid H_0 \text{ נכונה}) = P_{H_0}(H_0)$$

הסיכוי לבצע טעות מסוג 2:

$$\beta = P(H_0 \text{ לקבל את } H_0 \mid H_1 \text{ נכונה}) = P_{H_1}(H_0)$$

רמת בטחון:

$$(1-\alpha) = P(H_0 \text{ לקבל את } H_0 \mid H_0 \text{ נכונה}) = P_{H_0}(H_0)$$

עוצמה:

$$\pi = (1-\beta) = P(H_0 \text{ לדחות את } H_0 \mid H_1 \text{ נכונה}) = P_{H_1}(H_0)$$

		הכרעה	
		$H_0$	$H_1$
מציאות	$H_0$	טעות מסוג 1	אין טעות
	$H_1$	אין טעות	טעות מסוג 2

התהליך לחישוב סיכוי לטעות מסוג שני:

השערת האפס: השערה אלטרנטיבית:	$H_0: p = p_0$ $H_1: p > p_0$	$H_0: p = p_0$ $H_1: p < p_0$	$H_0: p = p_0$ $H_1: p \neq p_0$	השערת האפס: השערה אלטרנטיבית:
תנאים:	$np_0 \geq 5 \& n(1-p_0) \geq 5$			
כלל ההכרעה: אזור הדחייה של $H_0$ :	$\hat{p} > p_0 + Z_{1-\alpha} \cdot \sqrt{\frac{p_0(1-p_0)}{n}}$	$\hat{p} < p_0 - Z_{1-\alpha} \cdot \sqrt{\frac{p_0(1-p_0)}{n}}$	$\hat{p} > p_0 + Z_{1-\frac{\alpha}{2}} \cdot \sqrt{\frac{p_0(1-p_0)}{n}}$ או $\hat{p} < p_0 - Z_{1-\frac{\alpha}{2}} \cdot \sqrt{\frac{p_0(1-p_0)}{n}}$	

חישוב $\beta$ :
$P_{H_1} \left( \hat{p} < p_0 + Z_{1-\alpha} \cdot \sqrt{\frac{p_0(1-p_0)}{n}} \right)$
$P_{H_1} \left( p_0 - Z_{1-\frac{\alpha}{2}} \cdot \sqrt{\frac{p_0(1-p_0)}{n}} < \hat{p} < p_0 + Z_{1-\frac{\alpha}{2}} \cdot \sqrt{\frac{p_0(1-p_0)}{n}} \right)$
$P_{H_1} \left( \hat{p} > p_0 - Z_{1-\alpha} \cdot \sqrt{\frac{p_0(1-p_0)}{n}} \right)$

$$\hat{p} \sim N \left( p, \frac{p(1-p)}{n} \right) \text{ : כאשר}$$

$$Z_{\hat{p}} = \frac{\hat{p} - p}{\sqrt{\frac{p(1-p)}{n}}} \text{ : והתקנון}$$

#### דוגמה (פתרון בהקלטה):

רופאי שיניים טוענים שיותר ממחצית האוכלוסייה הבוגרת בארץ אינם מבקרים אצל רופא שיניים באופן קבוע, כנדרש. כדי לבדוק טענה זו, נערך סקר בקרב 150 אנשים בוגרים.

- רשמו את ההשערות וכלל הכרעה ברמת מובהקות של 10%.
- מהי עוצמת המבחן אם מסתבר ש 60% מהאוכלוסייה אינם מבקרים אצל רופא שיניים באופן קבוע.

## שאלות:

- (1) משרד הבריאות פרסם ש-10% מתושבי המדינה סובלים ממחלת האסטמה. מחקר דורש לבדוק האם בחיפה, בגלל זיהום האוויר, שיעור הסובלים מאסטמה גבוה יותר. לצורך המחקר נבדקו 260 מתושבי חיפה.
- א. רשמו את השערות המחקר, וצרו מבחן ברמת מובהקות של 5% לבדיקתן.  
 ב. מהי עצמת המבחן של סעיף א' בהנחה ובחיפה 16% מהתושבים סובלים מאסטמה?  
 ג. כיצד תשנה התשובה לסעיף ב' אם מסתבר שבחיפה 18% סובלים מאסטמה?  
 ד. בהמשך לסעיף א' האם נכון לומר שבהסתברות של 5% ההשערה שבחיפה 10% מהתושבים סובלים מאסטמה אינה נכונה?
- (2) אחוז הסובלים מתופעות הלוואי מתרופה מסוימת הוא 15%. חברת תרופות טוענת שפיתחה תרופה שאמורה לצמצם את אחוז הסובלים מתופעות לוואי. לצורך בדיקת הטענה הוחלט לבצע מחקר שיכלול 120 חולים שיקבלו את התרופה הנבדקת. נניח שהתרופה נבדקת אכן מורידה את פרופורציות הסובלים מתופעות הלוואי ל-10%, מהי עצמת המבחן עבור רמת מובהקות של 5%?
- (3) בעיר מסוימת היו 20% אקדמאים. בעקבות פתיחת מכללה בעיר לפני כמה שנים מעוניינים לבדוק האם אחוז האקדמאים גדל. מעוניינים שהמחקר יכלול 200 אנשים והוא יהיה ברמת מובהקות של 5%.
- א. חשבו את הסיכוי לבצע טעות מסוג שני בהנחה והיום יש 28% אקדמאים.  
 ב. כיצד התשובה לסעיף הקודם תשתנה אם נגדיל את רמת המובהקות?
- (4) מעוניינים לבדוק האם בפקולטה מסוימת ישנה העדפה לגברים. הוחלט לדגום 200 מתקבלים ועל סמך מספר הבנים לקבוע אם טענת המחקר מתקבלת. חוקר א' קבע רמת מובהקות של 5% וחוקר ב' החליט לקבל את טענת המחקר אם במדגם יהיו לפחות 120 בנים. למי מבין החוקרים רמת מובהקות גדולה יותר?
- (5) חוקר ביצע מחקר ובו עשה טעות מסוג שני לכן (בחרו בתשובה הנכונה):
- א. השערת האפס נכונה.  
 ב. השערת האפס נדחתה.  
 ג. השערת האפס לא נדחתה.  
 ד. אף אחת מהתשובות לא נכונה בהכרח.
- (6) קבעו אם הטענה הבאה נכונה: בבדיקת השערות לא ניתן לבצע בו זמנית טעות מסוג ראשון וטעות מסוג שני.

## תשובות סופיות:

- (1) א.  $H_0 : p = 0.1$   
 $H_1 : p > 0.1$
- (2) 0.4404
- (3) א. 0.1446 ב. תקטן.
- (4) חוקר א'.
- (5) ג'.
- (6) נכונה.
- ב. 0.9015 ג. תגדל. ד. טענה לא נכונה.

## קביעת גודל מדגם:

**רקע:**

השערות המחקר הן:  $H_0: p = p_0$ ,  $H_1: p = p_1$ . מעוניינים לבצע מחקר שרמת המובהקות לא תעלה על  $\alpha$  והסיכוי לטעות מסוג שני לא יעלה על  $\beta$ .

הנוסחה הבאה נותנת את גודל המדגם הרצוי:

$$n \geq \left( \frac{Z_{1-\alpha} \sqrt{p_0 q_0} + Z_{1-\beta} \sqrt{p_1 q_1}}{p_0 - p_1} \right)^2$$

**דוגמה (פתרון בהקלטה):**

רוצים לבדוק האם אחוז האנשים השוהים בשמש ללא הגנה ירד בעקבות הפרסומת על נזקי השמש.

בעבר 60% מהאוכלוסייה שהתה בשמש ללא הגנה. מה גודל המדגם המינימלי שיש לקחת כדי לבדוק שהאחוז הני"ל ירד ל-48% אם מעוניינים שהסיכוי לטעות מסוג ראשון יהיה 5% והסיכוי לטעות מסוג שני יהיה 1%?

### שאלות:

- (1) משרד התמ"ת פרסם שאחוז האבטלה במשק היום עומד על 8%. לעומתו, משרד הפנים טוען שחלה עלייה בשיעור האבטלה עד לכדי 11%. כדי לבדוק מי מבניהם צודק, מה צריך להיות גודל המדגם שיענה על שני התנאים הבאים:
- א. אם משרד התמ"ת צודק, נדחה את טענתו בסיכוי של 10%.
- ב. אם משרד הפנים צודק, נדחה את טענתו בסיכוי של 4%.
- (2) מפעיל קזינו מפרסם שהסיכוי לזכות במכונת מזל הינו 0.42. אדם טוען שהסיכויים לזכות במשחק נמוכים יותר. כמה פעמים יש לשחק את המשחק כדי שאם טענת מפעיל הקזינו נכונה נקבל את טענת האדם בסיכוי של 1% ואם במציאות הסיכוי לזכות במכונה הוא 0.3 נקבל את מפעיל הקזינו בסיכוי של 8%?

### תשובות סופיות:

(1) .891

(2) .224

## מובהקות התוצאה – אלפא מינימלית:

### רקע:

דרך נוספת להגיע להכרעות שלא דרך כלל הכרעה, היא דרך חישוב מובהקות התוצאה: באמצעות תוצאות המדגם מחשבים את מובהקות התוצאה שמסומן ב-  $p_v$ . את רמת המובהקות החוקר קובע מראש לעומת זאת, את מובהקות התוצאה החוקר יוכל לחשב רק אחרי שיהיו לו את התוצאות. המסקנה של המחקר תקבע לפי העיקרון הבא:

אם  $p_v \leq \alpha$  דוחים את  $H_0$ .

מובהקות התוצאה זה הסיכוי לקבלת תוצאות המדגם וקיצוני מתוצאות אלה בהנחת השערת האפס.

לקבל את תוצאות המדגם וקיצוני  $p_v = P_{H_0}$ .

אם ההשערה היא דו צדדית:

לקבל את תוצאות המדגם וקיצוני  $p_v = 2P_{H_0}$ .

מובהקות התוצאה היא גם האלפא המינימלית לדחיית השערת האפס.

$H_0: p = p_0$ $H_1: p > p_0$	$H_0: p = p_0$ $H_1: p < p_0$	$H_0: p = p_0$ $H_1: p \neq p_0$	השערת האפס: השערה אלטרנטיבית:
$np_0 \geq 5 \& n(1-p_0) \geq 5$			תנאים:
$P_{H_0}(\hat{P} \geq \hat{p})$	$P_{H_0}(\hat{P} \leq \hat{p})$	אם $2 \cdot P_{H_0}(\hat{P} \geq \hat{p}) \leftarrow \hat{p} > p_0$ אם $2 \cdot P_{H_0}(\hat{P} \leq \hat{p}) \leftarrow \hat{p} < p_0$	p-value

כאשר בהנחת השערת האפס:  $\hat{P} \sim N\left(p_0, \frac{p_0(1-p_0)}{n}\right)$

התקנון:  $Z_{\hat{p}} = \frac{\hat{p} - p_0}{\sqrt{\frac{p_0(1-p_0)}{n}}}$

**דוגמה (פתרון בהקלטה):**

ישנה טענה שיש הבדל בין אחוז הבנים ואחוז הבנות הפונים ללמוד להנדסאי מחשבים. לשם כך נלקח מדגם מקרי של 200 תלמידים הלומדים מחשבים והתברר כי 112 מהם בנים.

א. מהי מובהקות התוצאה?

ב. מה המסקנה ברמת מובהקות של 5%?

## שאלות:

- (1) במשך שנים אחוז המועמדים שהתקבל לפקולטה מסוימת היה 25%. השנה מתוך מדגם של 120 מועמדים התקבלו 22. רוצים לבדוק האם השנה הקשו על תנאי הקבלה.  
 א. מהי מובהקות התוצאה?  
 ב. מה תהיה המסקנה ברמת מובהקות של 1% וברמת מובהקות של 5%?
- (2) נהוג לחשוב ש-60% מהילדים בגיל שלוש קמים מהמיטה במהלך הלילה לפחות פעם אחת. ישנה טענה שללא שנת צהריים פחות מ-60% מהילדים בגיל זה יקומו לפחות פעם אחת במהלך הלילה. נדגמו 80 ילדים בגיל 3 אשר אינם ישנים בצהריים מתוכם התקבל ש-41 קמו במהלך הלילה.  
 א. מהי רמת המובהקות המינימלית עבורה תתקבל הטענה במחקר?  
 ב. מהי רמת המובהקות המקסימלית עבורה לא תתקבל טענת המחקר?  
 ג. עבור אילו רמות מובהקות נקבל את טענת המחקר?  
 ד. מה תהיה מסקנת המחקר ברמת מובהקות של 6%?
- (3) במטרה לבדוק האם מטבע הוא הוגן מטילים אותו 80 פעמים. התקבל ש-60 מההטלות הראו עץ. רשמו את השערות המחקר, חשבו את מובהקות התוצאה והסיקו מסקנה ברמת מובהקות של 5%.
- (4) בבדיקת השערות על פרופורציה התקבל שה- $p\text{-value} = 0.02$ .  
 מה תהיה מסקנת חוקר המשתמש ברמת מובהקות 5%:  
 (בחרו בתשובה הנכונה)  
 א. יקבל את השערת האפס  
 ב. ידחה את השערת האפס.  
 ג. לא ניתן לדעת כי אין מספיק נתונים.
- (5) קבעו אם הטענה הבאה נכונה:  
 "במבחן לבדיקת השערות חד-צדדי התקבל ערך  $p\text{-value}$  של 3%,  
 לכן אם היינו מבצעים מבחן דו-צדדי (כאשר יתר הנתונים ללא שינוי),  
 היינו מקבלים ערך  $p\text{-value}$  של 6%".
- (6) במפעל 10% מהעובדים נפגעים לפחות פעם אחת בשנה מתאונות עבודה. לאור זאת, המפעל החליט לצאת בתוכנית לצמצום שיעור הנפגעים. תכנית זו נוסתה על 100 עובדים. מתוכם 12 נפגעו בתאונות עבודה במשך השנה. מהי רמת המובהקות הקטנה ביותר עבורה יוחלט שהתכנית יעילה?

**תשובות סופיות:**

- (1) א. 0.0455.  
ב. ברמת מובהקות של 1% : לא דוחים את  $H_0$ .  
ברמת מובהקות של 5% : נדחה את  $H_0$ .
- (2) א. 0.0548.      ב. 0.0548.      ג. מעל 0.0548.  
ד. נכריע לטובת טענת המחקר.
- (3)  $p_v = 0$ , נדחה את  $H_0$ .
- (4) ב'.
- (5) הטענה נכונה.
- (6) 0.7486.

## סטטיסטיקה ב

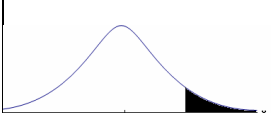
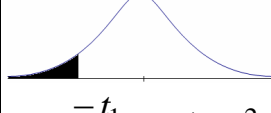
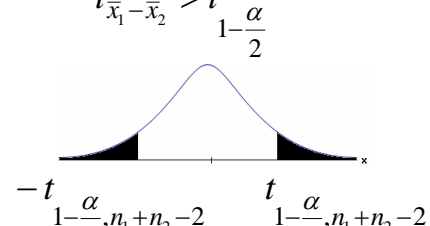
פרק 13 - בדיקת השערות על הפרש תוחלות במדגמים בלתי תלויים

תוכן העניינים

1. כששונויות האוכלוסיה לא ידועות ומניחים שהן שוות.....95

## בדיקת השערות על הפרש תוחלות במדגמים בלתי תלויים

כששונויות האוכלוסייה לא ידועות ומניחים שהן שוות – רקע

$H_0 \quad \mu_1 - \mu_2 = c$ $H_1 \quad \mu_1 - \mu_2 > c$	$H_0 \quad \mu_1 - \mu_2 = c$ $H_1 \quad \mu_1 - \mu_2 < c$	$H_0 \quad \mu_1 - \mu_2 = c$ $H_1 \quad \mu_1 - \mu_2 \neq c$	השערת האפס: השערה אלטרנטיבית: תנאים:
$t_{\bar{x}_1 - \bar{x}_2} > t_{1-\alpha}^{(n_1+n_2-2)}$	$t_{\bar{x}_1 - \bar{x}_2} < -t_{1-\alpha}^{(n_1+n_2-2)}$	$t_{\bar{x}_1 - \bar{x}_2} < -t_{1-\frac{\alpha}{2}}^{(n_1+n_2-2)}$ או $t_{\bar{x}_1 - \bar{x}_2} > t_{1-\frac{\alpha}{2}}^{(n_1+n_2-2)}$	1. מדגמים בלתי תלויים 2. $\sigma_1, \sigma_2$ לא ידועות אך שוות 3. המשתנים בכל אוכלוסייה מתפלגים נורמלית
 $t_{1-\alpha, n_1+n_2-2}$ דוחים את $H_0$	 $-t_{1-\alpha, n_1+n_2-2}$ דוחים את $H_0$	 $-t_{1-\frac{\alpha}{2}, n_1+n_2-2}$ $t_{1-\frac{\alpha}{2}, n_1+n_2-2}$ דוחים את $H_0$	אזור הדחייה של $H_0$

$$t_{\bar{x}_1 - \bar{x}_2} = \frac{(\bar{x}_1 - \bar{x}_2) - c}{\sqrt{\frac{S_p^2}{n_1} + \frac{S_p^2}{n_2}}}$$

סטטיסטי המבחן:

$$S_p^2 = \frac{(n_1 - 1)S_1^2 + (n_2 - 1)S_2^2}{n_1 + n_2 - 2}$$

השונויות המשוקללת:

## חלופה אחרת לכלל הכרעה:

נדחה $H_0$ אם מתקיים:	
$\bar{x}_1 - \bar{x}_2 < c - t_{1-\alpha}^{(n_1+n_2-2)} \cdot \sqrt{\frac{S_p^2}{n_1} + \frac{S_p^2}{n_2}}$	$\bar{x}_1 - \bar{x}_2 > c + t_{1-\frac{\alpha}{2}}^{(n_1+n_2-2)} \cdot \sqrt{\frac{S_p^2}{n_1} + \frac{S_p^2}{n_2}}$ <p style="text-align: center;">או</p> $\bar{x}_1 - \bar{x}_2 < c - t_{1-\frac{\alpha}{2}}^{(n_1+n_2-2)} \cdot \sqrt{\frac{S_p^2}{n_1} + \frac{S_p^2}{n_2}}$
$\bar{x}_1 - \bar{x}_2 > c + t_{1-\alpha}^{(n_1+n_2-2)} \cdot \sqrt{\frac{S_p^2}{n_1} + \frac{S_p^2}{n_2}}$	

## דוגמה (פתרון בהקלטה):

חברה המייצרת מוצרי בנייה טוענת שפיתחה סגסוגת (תערובת מתכות) שטמפרטורת ההתכה שלה גבוהה משמעותית מטמפרטורת ההתכה של הסגסוגת לבנייה שמשמשים בה כיום לבניית בניינים. לצורך בדיקת טענת המחקר נדגמו 10 יחידות של מתכות מהסוג הישן ו-12 יחידות של מתכות מהסוג החדש. להלן תוצאות המדגם:

טמפרטורת ההתכה הממוצעת במתכת הישנה 1170 מעלות עם אומד חסר הטיה לשונות  $S^2 = 200$ .

טמפרטורת ההתכה הממוצעת במתכת החדשה 1317 מעלות עם אומד חסר הטיה לשונות  $S^2 = 260$ .

נניח לצורך פתרון שטמפרטורת ההתכה מתפלגת נורמאלית עם אותה שונות במתכות השונות. בדקו ברמת מובהקות של 5%.

## שאלות

1) להלן נתונים של שטחי דירות מתוך דירות שנבנו בשנת 2012 ובשנת 2013 (במ"ר):

120	94	90	130	95	112	120	2012
	69	74	105	91	82	100	2013

בדקו שבשנת 2013 הייתה ירידה משמעותית בשטחי הדירות לעומת שנת 2012 עבור רמת מובהקות של 5%.  
הניחו ששטחי הדירות בכל שנה מתפלגים נורמלית עם אותה שונות.

2) נדגמו 15 ישראלים ו-15 אמריקאים. כל הנדגמים נגשו למבחן IQ. להלן תוצאות המדגם:

המדינה	ישראל	ארה"ב
גודל המדגם	15	15
סכום הציונים	1560	1470
סכום ריבועי הציונים	165,390	147,560

בדקו ברמת מובהקות של 5% האם קיים הבדל של נקודה בין ישראלים לאמריקאים מבחינת ממוצע הציונים במבחן ה-IQ לטובת ישראל. רשמו את כל ההנחות הדרושות לצורך פתרון התרגיל.

3) להלן תוצאות מדגם הבדק אורך חיים של נורות מסוג W60 ומסוג W100. אורך החיים נמדד בשעות.

100W	60W	הקבוצה
956	1007	$\bar{x}$
72	80	$S$
15	13	$n$

- א. בדקו ברמת מובהקות של 5% האם נורות מסוג W60 דולקות בממוצע יותר מאשר נורות מסוג W100. רשמו את כל ההנחות הדרושות לפתרון.
- ב. עבור איזו רמת מובהקות ניתן לקבוע שנורות מסוג W60 דולקות בממוצע יותר מאשר נורות מסוג 100?
- ג. בדקו ברמת מובהקות של 5% האם נורות מסוג W60 דולקות יותר מ 1000 שעות. רשמו את כל ההנחות הדרושות.

**תשובות סופיות**

- (1) נדחה את  $H_0$ .
- (2) הנחות:
  1. סטיות התקן שוות.
  2. המשתנים מתפלגים נורמלית.נקבל את  $H_0$ .
- (3) א. נדחה את  $H_0$ .  
ב. רמת מובהקות של לפחות 5%.  
ג. לא נדחה את  $H_0$ .

## סטטיסטיקה ב

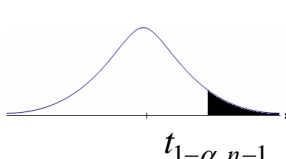
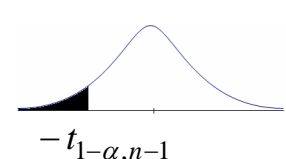
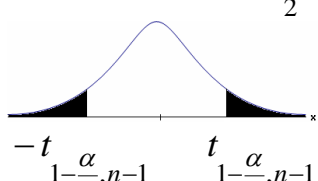
פרק 14 - בדיקת השערות לתוחלת ההפרש במדגמים מזווגים

תוכן העניינים

1. בדיקת השערות למדגמים מזווגים ..... 99

## בדיקת השערות על תוחלת ההפרשים במדגמים מזווגים (תלויים)

### בדיקת השערות למדגמים מזווגים – רקע

$H_0: \mu_D = C$ $H_1: \mu_D > C$	$H_0: \mu_D = C$ $H_1: \mu_D < C$	$H_0: \mu_D = C$ $H_1: \mu_D \neq C$	השערת האפס: השערה אלטרנטיבית:
1. $\sigma_D$ אינה ידועה 2. $D \sim N$ או מדגם מספיק גדול			תנאים:
$t_{\bar{D}} > t_{1-\alpha}^{(n-1)}$  $t_{1-\alpha, n-1}$ - דוחים את $H_0$	$t_{\bar{D}} < -t_{1-\alpha}^{(n-1)}$  $-t_{1-\alpha, n-1}$ - דוחים את $H_0$	או $t_{\bar{D}} > t_{1-\frac{\alpha}{2}}^{(n-1)}$ או $t_{\bar{D}} < -t_{1-\frac{\alpha}{2}}^{(n-1)}$  $-t_{1-\frac{\alpha}{2}, n-1}$ $t_{1-\frac{\alpha}{2}, n-1}$ - דוחים את $H_0$	כלל הכרעה: אזור הדחייה של $H_0$
$\bar{D} > C + t_{1-\alpha}^{n-1} \cdot \frac{S_D}{\sqrt{n}}$	$\bar{D} < C - t_{1-\alpha}^{n-1} \cdot \frac{S_D}{\sqrt{n}}$	$\bar{D} > C + t_{1-\frac{\alpha}{2}}^{n-1} \cdot \frac{S_D}{\sqrt{n}}$ ו $\bar{D} < C - t_{1-\frac{\alpha}{2}}^{n-1} \cdot \frac{S_D}{\sqrt{n}}$	חלופה לכלל הכרעה: נדחה $H_0$ אם מתקיים:

$$S_D^2 = \frac{\sum_{i=1}^n (D_i - \bar{D})^2}{n-1} = \frac{\sum_{i=1}^n D_i^2 - n\bar{D}^2}{n-1}, \quad t_{\bar{D}} = \frac{\bar{D} - \mu_D}{S_D / \sqrt{n}}$$

סטטיסטי המבחן:

דוגמה (פתרון בהקלטה):

חברה שיווקית מעוניינת לבדוק את טענת רשת השיווק "מגה בעיר" הטוענת שמחיריה נמוכים מהמחירים מרשת השיווק "שופרסל". לצורך הבדיקה נבחרו באקראי 4 מוצרים שונים. המחירים נבדקו בשתי הרשתות. להלן המחירים:

המוצר / רשת	מגה בעיר	שופרסל
שמפו	17	18
גיל כביסה	48	57
עוגת גבינה	35	35
לחם	12	10
קפה נמס	49	47
בקבוק יין	113	142
גבינה בולגרית	20	26

בהנחה והמחירים מתפלגים נורמאלית, בדקו ברמת מובהקות של 5% את טענת רשת "מגה בעיר".

## שאלות

- (1) במטרה לבדוק האם קיים הבדל בין חברת  $X$  לחברת  $Y$  מבחינת המחירים לשיחות בינ"ל. נדגמו באקראי 7 מדינות ועבור כל מדינה נבדקה עלות דקת שיחה. להלן התוצאות:

יפן	סין	מצרים	פולין	הולנד	קנדה	ארה"ב	חברה/מדינה
4.2	3.2	3.5	3	2.2	2.1	1.5	$X$
4.2	3.2	3.2	3.1	1.9	2	1.4	$Y$

- בהנחה והמחירים מתפלגים נורמלית בכל חברה, בדקו ברמת מובהקות של 5% האם קיים הבדל בין החברות מבחינת המחירים במוצע:
- (2) מכון המכין לפסיכומטרי טוען שהוא מעלה את ממוצע הציונים ביותר מ-30 נקודות. 8 נבחנים נבדקו לפני ואחרי שהם למדו במכון. להלן התוצאות שהתקבלו:

לפני	506	470	420	640	670	390	500	590
אחרי	570	540	430	610	680	510	520	580

מה מסקנתכם ברמת מובהקות 5%? הניחו שציוני פסיכומטרי מתפלגים נורמלית.

- (3) נדגמו 5 סטודנטים שסיימו את הקורס סטטיסטיקה ב'. להלן הציונים שלהם בסמסטר א' ו- ב':

82	75	90	68	74	סטטיסטיקה א'
100	76	87	84	80	סטטיסטיקה ב'

- פורסם שתלמידים שמסיימים את סמסטר ב' משפרים במוצע את הציונים ב-5 נקודות לעומת סמסטר א'. הניחו שהציונים מתפלגים נורמלית.
- א. מהי מובהקות התוצאה לבדיקת הטענה שהשיפור הוא יותר מ-5 נקודות?  
 ב. על סמך הסעיף הקודם, מהי רמת המובהקות המינימלית להכרעה שהשיפור הוא יותר מ-5 נקודות?  
 ג. לאור זאת, מה המסקנה ברמת מובהקות של 10%?

- (4) לצורך בדיקת השפעת היפנוזה על לימוד אנגלית, נבחרו 10 זוגות תאומים זהים. אחד התאומים למד אנגלית בהשפעת היפנוזה, והשני ללא היפנוזה. לאחר מכן נערך לשניהם מבחן באנגלית. נניח שציוני המבחן מתפלגים נורמלית ללא ידיעת השונות האמתית. המבחן שיש לבצע כאן הוא:

- א. מבחן  $Z$  למדגם יחיד.  
 ב. מבחן  $T$  למדגם יחיד.  
 ג. מבחן  $T$  למדגמים בלתי תלויים.  
 ד. מבחן  $T$  למדגמים מזווגים.

(5) בתחנת טיפת חלב מסוימת יש שני מכשירי שקילה. על מנת להשוות בין שני המשקלים נדגמו 4 תינוקות. כל תינוק בן חודשיים נשקל בכל אחד מהמשקלים. להלן תוצאות השקילה (בק"ג):

משקל במכשיר 1	4.5	9.6	0.7	2.5
משקל במכשיר 2	3.5	6.9	1.7	0.5

נניח שהמשקלים מתפלגים נורמלית, המבחן שיש לבצע כאן הוא:

- א. מבחן Z למדגם יחיד.
- ב. מבחן T למדגם יחיד.
- ג. מבחן T למדגמים בלתי תלויים.
- ד. מבחן T למדגמים מזווגים.

(6) כדי להשוות בין שני אצנים נדגמו 5 תוצאות מריצת 100 מטר של כל אצן. זמני הריצה נרשמו ויש להניח שמתפלגים נורמלית. המטרה להשוות בין האצנים. המבחן שיש לבצע כאן הוא:

- א. מבחן Z למדגם יחיד.
- ב. מבחן T למדגם יחיד.
- ג. מבחן T למדגמים בלתי תלויים.
- ד. מבחן T למדגמים מזווגים.

### תשובות סופיות

- (1) לא נדחה  $H_0$ .
- (2) לא נדחה  $H_0$ .
- (3) א.  $0.25 \leq p \leq 0.5$     ב. 0.5    ג. לא נדחה  $H_0$ .
- (4) ד'.
- (5) ד'.
- (6) ג'.

## סטטיסטיקה ב

פרק 15 - הקשר בין רווח סמך לבדיקת השערות להפרש תוחלות

תוכן העניינים

1. הקשר בין רווח סמך לבדיקת השערות להפרש תוחלות ..... 103

## הקשר בין רווח סמך לבדיקת השערות על הפרש תוחלות

---

### רקע

ניתן לבצע בדיקת השערות דו צדדית ברמת מובהקות  $\alpha$  על  $\mu_1 - \mu_2$  :

$$H_0 : \mu_1 - \mu_2 = C, \quad H_1 : \mu_1 - \mu_2 \neq C$$

על ידי בניית רווח סמך ברמת סמך של  $1 - \alpha$  ל-  $\mu_1 - \mu_2$  :

אם  $C$  נופל ברווח  $\leftarrow$  נקבל את  $H_0$  .

אם  $C$  לא נופל ברווח  $\leftarrow$  נדחה את  $H_0$  .

### דוגמה (פתרון בהקלטה) :

חוקר ביצע בדיקת השערות לתוחלת ההפרש במדגם מזווג.

להלן השערותיו :  $\alpha = 5\%$ ,  $H_0 : \mu_D = 80$ ,  $H_1 : \mu_D \neq 80$  .

החוקר בנה רווח סמך ברמה של 90% ,  $78 < \mu_D < 83$  .

האם אפשר לדעת מה מסקנתו, ואם כן מהי?

## שאלות

- (1) נדגמו 5 סטודנטים שסיימו את הקורס סטטיסטיקה ב'. להלן ציוניהם בסמסטר א' ו- ב' :

סמסטר א	סמסטר ב
74	80
68	84
90	87
75	76
82	100

- א. בנו רווח סמך ברמת סמך של 95% לתוחלת פער הציונים בין סמסטר א' לבין סמסטר ב'.  
 ב. פורסם שתלמידים שמסיימים את סמסטר ב משפרים בממוצע את הציונים ב-5 נק' לעומת סמסטר א'. האם יש אמת בפרסום?

- (2) הוחלט להשוות הציונים אצל מרצה X ואצל מרצה Y. נבחרו באקראי 6 סטודנטים, 3 סטודנטים של מרצה X ו-3 סטודנטים של מרצה Y, עבורם התקבלו הציונים הבאים :

מרצה X	82	90	68
מרצה Y	68	81	64

- א. חשבו רווח סמך ברמת סמך 90% להפרש בין התוחלות של הציונים אצל שני המרצים.  
 ב. האם ברמת מובהקות של 10% נכריע שיש הבדל בין תוחלות הציונים אצל שני המרצים?

## שאלות רב-ברירה :

- (3) סטטיסטיקאי נתבקש לאמוד את הפרש הממוצעים של שני טיפולים לפי שני מדגמים מקריים בלתי תלויים.  
 הוא חישב רווח סמך להפרש ברמת סמך 0.98, וקיבל את הרווח  $-2 < \mu_1 - \mu_2 < 4.5$ .  
 אילו יתבקש החוקר לבדוק לפי אותם נתונים את השערות :  
 $H_0 : \mu_1 - \mu_2 = 0$  ;  $H_1 : \mu_1 - \mu_2 \neq 0$  ברמת מובהקות 0.05, מסקנתו תהיה :  
 א. לדחות את השערת האפס.  
 ב. לא לדחות את השערת האפס.  
 ג. שלא ניתן לדעת את המסקנה עבור רמת מובהקות 0.05.  
 ד. שלא נתונות בשאלה סטיות התקן של האוכלוסיות, ולכן לא ניתן להסיק דבר.

- (4) במטרה לבדוק האם קיים הבדל בין קווי זהב לבזק מבחינת ממוצע המחירים לשיחות בינ"ל. נגדמו באקראי 7 מדינות ועבור כל מדינה נבדקה עלות דקת שיחה. בהנחה והמחירים מתפלים נורמלית בנו רווח סמך לממוצע ההפרשים וקיבלו :  $-0.0293 < \mu_D < 0.2145$ , רווח הסמך הוא ברמת סמך של 95%.
- לכן מסקנת המחקר היא :
- ברמת מובהקות של 5% לא נוכל לקבוע שקיים הבדל בין החברות.
  - ברמת מובהקות של 5% נקבע שקיים הבדל מובהק בין החברות.
  - לא ניתן לדעת מה המסקנה ברמת מובהקות של 5% כיוון שלא נאמר מה ההגדרה של  $D$ .

### תשובות סופיות

- (1) א.  $-3.8 \leq \mu_D \leq 19$  ב. נכריע שיש אמת בפרסום.
- (2) א.  $-8.5 \leq \mu_X - \mu_Y \leq 26.5$  ב. נכריע שאין הבדל.
- (3) ג.
- (4) א.

## סטטיסטיקה ב

פרק 16 - שאלות מסכמות בבדיקת השערות

תוכן העניינים

1. שאלות פתוחות מסכמות.....106

## שאלות מסכמות בבדיקת השערות על פרמטרים

### שאלות

- (1) שני חוקרים נתבקשו לבדוק את ההשערות הבאות:  $H_0: \mu = 520$ ,  $H_1: \mu > 520$ . כל חוקר בדק מדגם של 225 נחקרים. ידוע ש- $\sigma = 20$ . חוקר א' קבע את כלל ההכרעה לפי  $\alpha = 0.05$ . חוקר ב' מחליט לדחות  $H_0$  אם  $\bar{X} > 522$ .

- א. למי מהחוקרים הסתברות לטעות מסוג ראשון קטנה יותר?  
 ב. מהי ההסתברות לטעות מסוג שני של חוקר ב' עבור  $\mu_1 = 525$ .  
 ג. הסבר ללא חישוב נוסף, האם ההסתברות לטעות מסוג שני עבור  $\mu_1 = 525$ , של חוקר א' שווה/קטנה/גדולה לזו של חוקר ב'.  
 ד. חוקר א' קיבל במדגם שלו  $\bar{X} = 523$ . מהי מסקנתו?

- (2) ידוע כי תוחלת מספר הלייקים היומי של דנה היא 12 עם סטיית תקן 5. דני טוען שהוא יותר פופולארי מדנה בכך שהוא מקבל יותר לייקים מדנה ביום. על-מנת לבדוק זאת ספר דני כמה לייקים הוא קיבל בכל יום במהלך 7 שבועות (כלומר, ב – 49 ימים) וקיבל סך-הכול 637 לייקים. נניח כי סטיית התקן של מספר הלייקים שדני מקבל ביום זהה לסטיית התקן של דנה.  
 א. מהי רמת המובהקות שכדאי לדני לדרוש, כדי שדנה תשתכנע בצדקת טענתו (שדני פופולרי יותר בכך שהוא מקבל יותר לייקים מדנה ביום).  
 ב. אם דני משער שתוחלת מספר ה"לייקים" שהוא מקבל ביום היא 14 וקובע רמת מובהקות 2.5%, מהי עוצמת המבחן של דני?

B	A	מוצר / רשת
5	5	1
5	4	2
3	5	3
4	7	4

- (3) ברצוננו להשוות בין רשתות A לבין B. לשם כך בחרנו 4 מוצרים, ובדקנו את מחיריהם בשתי הרשתות. להלן התוצאות:  
 הניחו כי המחירים מתפלגים נורמלית.  
 אם יש הנחות נוספות כדי לבצע את המבחן הפרמטרי רשמו אותן.  
 א. בדקו האם קיים הבדל בין הרשתות מבחינת תוחלת המחירים. רמת מובהקות של 5%.  
 ב. חזרו על הסעיף הקודם בהנחה ונבחרו בכל רשת מוצרים באקראי ולא בהכרח אותם מוצרים.

4) במטרה לבדוק האם סטודנטים הלומדים במכללות משקיעים יותר זמן ללימודים מאשר סטודנטים באוניברסיטאות נדגמו 12 סטודנטים ובדקו לכל סטודנט את הזמן שהוא משקיע ביום ללימודים. הזמנים נמדדו בדקות:

180	140	171	189	156	176	סטודנטים באוניברסיטאות
150	204	186	191	190	180	סטודנטים במכללות

א. נסחו את ההשערות ובדוק אותן ברמת מובהקות של 5%. רשום את כלל ההכרעה ואת ההנחות הדרושות לביצוע המבחן הפרמטרי.

ב. חשבו את p-value.

ג. ישנה טענה שממוצע זמן ההשקעה בלימודים במכללות הוא 3.5 שעות ביום. בדוק את הטענה כאשר רמת המובהקות הינה 5%.

5) בשנת 2000 ל-60% היה מדיח כלים בבית. מחקר רוצה לבדוק האם כיום פרופרציית המשפחות עם מדיח כלים עלה. הוחלט לבצע מדגם אקראי של 150 משפחות.

א. רשמו את השערות המחקר.

ברמת במדגם	1.1	1.2	0.7	0.9	2	גברים	ב. מה היא מסקנת המחקר מובהקות של 5% אם
	1.2	1.8	1.9	1.1	1.4	נשים	

ל-102 משפחות היה מדיח כלים.

ג. מהי הטעות האפשרית במסקנה מהסעיף הקודם.

האם ניתן לדעת את הסתברותה?

6) נערך מחקר על הקשר בין עישון ויתר לחץ דם. נבדק מדגם מקרי של 200 מעשנים ונמצא כי 30 סבלו מיתר לחץ דם. ידוע שבאוכלוסייה 18% סובלים מיתר לחץ דם.

א. בדקו ברמת מובהקות 0.1 את ההשערה כי אחוז הסובלים מיתר לחץ דם בקרב המעשנים גדול מאשר כלל האוכלוסייה.

ב. מהי רמת המובהקות המינימלית לקבלת הטענה שאחוז הסובלים מיתר לחץ דם בקרב המעשנים גדול מאשר כלל האוכלוסייה.

ג. מהי עצמת המבחן, אם אחוז הסובלים מיתר לחץ דם בקרב אוכלוסיית המעשנים היא בפועל 25%.

7) להלן התפלגות מספר הנסיעות לחופשה השנתית במדגם של משפחות ישראליות. בדקו ברמת מובהקות של 5%:

4	3	2	1	0	מספר הנסיעות
12	20	26	102	84	מספר המשפחות

א. באיטליה משפחות נוסעות בממוצע פעמיים בשנה לחופשה. האם בישראל משפחות נוסעות פחות מאשר באיטליה?

ב. בהולנד 80% מהמשפחות נוסעות לפחות פעם אחת בשנה לחופשה, האם בישראל אחוז המשפחות שנוסעות לפחות פעם אחת בשנה לחופשה נמוך מאשר בהולנד?

(8) נתון כי:  $X \sim N(\mu, \sigma^2 = 10^2)$ .

מעוניינים לבדוק את ההשערות:  $H_0: \mu = 40$ ,  $H_1: \mu > 40$ .

דגמו 25 תצפיות מהאוכלוסייה והתקבל  $\bar{X} = 45$ .

א. חשבו את p-value (מובהקות התוצאה).

ב. חזרו על סעיף א אם ההשערה האלטרנטיבית הייתה:  $H_1: \mu < 40$ .

ג. חזרו על סעיף א אם ההשערה האלטרנטיבית הייתה:  $H_1: \mu \neq 40$ .

### תשובות סופיות

- |                    |                    |                                    |                 |     |
|--------------------|--------------------|------------------------------------|-----------------|-----|
| א. חוקר א'         | ב. 0.0122          | ג. גדלה.                           | ד. נדחה $H_0$ . | (1) |
| א. לפחות 0.0808    | ב. 0.7995          |                                    |                 | (2) |
| א. לא נדחה $H_0$ . | ב. לא נדחה $H_0$ . |                                    |                 | (3) |
| א. לא נדחה $H_0$ . | ב. בין 5% ל-10%.   | ג. נדחה $H_0$ .                    |                 | (4) |
| א. $H_0: p = 0.6$  | ב. נדחה $H_0$ .    | ג. טעות מסוג ראשון בסיכוי של 0.05. |                 | (5) |
| א. לא נדחה $H_0$ . | ב. 0.8643          | ג. 0.8749.                         |                 | (6) |
| א. נדחה $H_0$ .    | ב. נדחה $H_0$ .    |                                    |                 | (7) |
| א. 0.0062          | ב. 0.9938          | ג. 0.0124.                         |                 | (8) |

# סטטיסטיקה ב

פרק 17 - ניתוח שונות חד כיוונית

תוכן העניינים

109 ..... 1. כללי

## ניתוח שונות חד כיוונית

### רקע תיאורטי

ניתוח שונות (חד כיוונית) הוא מבחן להשוואת תוחלות  $(\mu_1, \dots, \mu_k)$  של  $k$  אוכלוסיות שונות. לכן, בנייתוח שונות, השערות המחקר הן:

$$H_0: \mu_1 = \mu_2 = \dots = \mu_k \quad (\text{התוחלות של כל האוכלוסיות שוות})$$

$$H_1: \quad \text{אחרת} \quad (\text{לפחות שתיים מהתוחלות שונות})$$

### ההנחות הדרושות לביצוע התהליך:

- (1) בכל אוכלוסייה מתוך  $k$  האוכלוסיות ההתפלגות נורמלית.
- (2) כל האוכלוסיות הן עם אותה שונות  $\sigma^2$ .
- (3) המדגמים בלתי תלויים זה בזה.

ישנו משתנה המבדיל בין הקבוצות השונות, הוא המשתנה הבלתי תלוי הנקרא גורם (factor). משתנה זה הוא קטגוריאלי עם  $k$  רמות (levels). כדי לבצע את התהליך יש לבצע מדגם מכל אוכלוסייה: נסמן ב- $n_i$  את גודל המדגם בקבוצה  $i$ .

$$n = \sum_{i=1}^k n_i \quad \text{- מספר התצפיות סך הכול (בכל המדגמים).}$$

$$\bar{X}_1, \dots, \bar{X}_k \quad \text{- ממוצע המדגם הראשון, \dots, ממוצע המדגם ה-} k \text{-י.}$$

$$\bar{X} \quad \text{- ממוצע כללי (של כל המדגמים).}$$

$$SS_B = \sum_{i=1}^k n_i [\bar{X}_i - \bar{X}]^2 \quad \text{סכום ריבועים בין הקבוצות:}$$

$$SS_W = \sum_{i=1}^k n_i [n_i - 1] \cdot \hat{S}_i^2 \quad \text{סכום ריבועים בתוך הקבוצות:}$$

$$SS_T = \sum_{i=1}^k \sum_{j=1}^{n_j} [X_{ij} - \bar{X}]^2 \quad \text{סכום ריבועים כללי:}$$

$$SST = SSB + SSW$$

יש למלא את טבלת ניתוח השונות הבאה :

מקור השונות	סכום הריבועים SS	דרגות חופש $df$	ממוצע הריבועים MS	F
B - בין הקבוצות	SSB	$k - 1$	$\frac{SSB}{k - 1}$	$\frac{MSB}{MSW}$
W - בתוך הקבוצות	SSW	$n - k$	$\frac{SSW}{n - k}$	
T - סה"כ	SST	$n - 1$		

$$F = \frac{\frac{SSB}{k-1}}{\frac{SSW}{n-k}} \sim F(k-1, n-k)$$

אזור דחיית  $H_0 : 1 - \alpha : F_{(k-1, n-k)}$

**שאלות**

- (1)** מחקר מעוניין להשוות בין שלוש תרופות לשיכוך כאבים במטרה לבדוק האם קיים הבדל בין התרופות מבחינת הזמן בדקות שלוקח עד שהתרופה משפיעה. לצורך הבדיקה נלקחו 15 אנשים שסובלים מכאבי ראש. אנשים אלה חולקו באקראי לשלוש קבוצה: קבוצה 1 קיבלה "אקמול" קבוצה 2 קיבלה "אופטלגין" קבוצה 3 קיבלה "נורופן". כל אדם במחקר מסר את מספר הדקות עד שהתרופה השפיעה עליו.
- א. מהו המשתנה התלוי ומהו המשתנה הבלתי תלוי במחקר?
  - ב. מהו המבחן הסטטיסטי המתאים כאן? רשמו את ההשערות.
  - ג. מה הן ההנחות הדרושות כדי לבצע את המבחן הסטטיסטי שהצעת בסעיף הקודם?

- (2)** בעיר מסוימת שלושה בתי ספר תיכון. ראש העיר התעניין לבדוק האם קיים הבדל בהצלחה של בתי הספר במקצוע מתמטיקה. לצורך כך הוא דגם מספר תלמידים שנבחנו במבחן הבגרות במתמטיקה ברמה של 3 יחידות בעירו ובדק עבור כל תלמיד מה ציון הבגרות שלו במתמטיקה. להלן הציונים שהתקבלו:

"הס"	"רבין"	"המתמיד"
85	98	78
83	62	65
74	55	70
85	80	90
75		56

- א. מהו המבחן הסטטיסטי המתאים?
- רשמו את ההשערות ואת ההנחות של המבחן.
- ב. מהו גודל המדגם? מהו המשתנה הבלתי תלוי (factor) כמה רמות יש לו?
- ג. חשבו את הממוצע ואת סטיית התקן של הציונים בכל אחד מהמדגמים.
- ד. מלאו את טבלת ANOVA.
- ה. רשמו את כלל ההכרעה למבחן שהוצע בסעיף א ברמת מובהקות של 5%.
- ו. האם קיים הבדל בין בתי הספר בעיר מבחינת רמת הצלחת התלמידים במקצוע המתמטיקה? ענה על סמך הסעיפים הקודמים.

- (3)** מעוניינים לבדוק האם יש הבדל בהשפעה של שיטות טפול שונות על לחץ הדם הסיסטולי (SBP) באוכלוסייה של קשישים. נבדקו 4 שיטות שונות. בטבלה המצורפת מרוכזים ממצאי המחקר.

D	C	B	A	השיטה
12	8	14	12	גודל המדגם
182	180	172	178	הממוצע
3	5	8	4	סטיית התקן

- א. רשמו את השערות המחקר וההנחות הדרושות כדי לבצע את המבחן המתאים.
- ב. מה מסקנת המחקר ברמת מובהקות של 5%?
- ג. האם יש צורך לבצע השוואות מרובות?

4) שלושה אופים נתבקשו להכין עוגת שוקולד. לכל אופה בדקו את משך זמן ההכנה בדקות. כל אופה נדרש לאפות בכל יום 4 עוגות.

האם קיים הבדל בין האופים מבחינת תוחלת זמני ההכנה של העוגות? בדקו ברמת מובהקות של 5%.

האופה	ניר	מוזס	שלום
סכום הזמנים	206	212	182
סכום ריבועי הזמנים	10644	11250	8982

5) להלן טבלת ניתוח שונות חד כיוונית. במחקר בחנו 4 סוגי סוללות. רצו לבדוק האם לסוג הסוללה השפעה על תוחלת אורך החיים שלה. הפעילו את כל הסוללות על אותו מכשיר ובדקו את אורך החיים של כל סוללה בשעות. מה המסקנה ברמת מובהקות של 10%? רשמו את ההשערות וההנחות הדרושות.

### ANOVA

	Sum of Squares	df	Mean Square	F	Sig.
Between Groups	10.317	3	3.439	1.361	.279
Within Groups	60.648	24	2.527		
Total	70.964	27			

6) להלן טבלת ANOVA בטבלה הושמטו חלקים. השלימו את החלקים בטבלה שהושמטו ומסומנים באותיות.

### ANOVA

	Sum of Squares	df	Mean Square	F	Sig.
Between Groups	357.450	ב	ג	ה	.000
Within Groups	א	17	ד		
Total	522.950	19			

7) חברת תרופות לקחה 15 אנשים ברמת בריאות דומה. החברה חילקה את האנשים ל שלוש קבוצות שוות בגודלן. לכל קבוצה ניתנה אותה תרופה במינון שונה (dosage). המינונים שניתנו הם: 10 מ"ג, 20 מ"ג ו-30 מ"ג. לאחר שעה מזמן לקיחת התרופה נבדק קצב פעימות הלב של כל אדם (pulse). הנתונים הוזנו לתוכנה סטטיסטית והתקבלו התוצאות הבאות:

ANOVA						pulse			
pulse						Tukey HSD <sup>a</sup>			
	Sum of Squares	df	Mean Square	F	Sig.	dosage	N	Subset for alpha = 0.05	
								1	2
Between Groups	414.400	2	207.200	19.733	.000	30.00	5	71.0000	
Within Groups	126.000	12	10.500			20.00	5		80.2000
Total	540.400	14				10.00	5		83.4000
						Sig.		1.000	.299

Means for groups in homogeneous subsets are displayed.  
a. Uses Harmonic Mean Sample Size = 5.000.

### Post Hoc Tests

#### Multiple Comparisons

(I) dosage		(J) dosage	Mean Difference (I-J)	Std. Error	Sig.	95% Confidence Interval	
						Lower Bound	Upper Bound
10.00	20.00	30.00	3.20000	2.04939	.299	-2.2675	8.6675
		30.00	12.40000*	2.04939	.000	6.9325	17.8675
20.00	10.00	30.00	-3.20000	2.04939	.299	-8.6675	2.2675
		30.00	9.20000*	2.04939	.002	3.7325	14.6675
30.00	10.00	20.00	-12.40000*	2.04939	.000	-17.8675	-6.9325
		20.00	-9.20000*	2.04939	.002	-14.6675	-3.7325

\*. The mean difference is significant at the 0.05 level.

- א. בדקו ברמת מובהקות של 5% האם קיים הבדל בין המינונים השונים מבחינת תוחלת הדופק של האנשים? רשמו את ההשערות וההנחות הדרושות לצורך פתרון.
- ב. הסבירו ללא חישוב כיצד הייתה משתנה התשובה לסעיף הקודם אם הינו מעלים את הדופק של כל התצפיות במחקר ב-2.
- ג. האם יש צורך במחקר בהשוואת מרובות. נמקו!
- ד. לטבלת ANOVA צורפו טבלאות של השוואות מרובות בשיטה הנקראת "טוקי". ברמת בטחון של 95% מה הם הממצאים לפי שיטה זו?

- 8) בעיר מסוימת רצו לבדוק האם קיים הבדל ברמה של התלמידים בין בתי הספר השונים בעיר. ביצעו מדגם מכל בית ספר ונתנו מבחן זהה לכל הנדגמים. לאחר מכן ריכזו את הנתונים בתוכנה סטטיסטית והפעילו ניתוח שונות. מצורפים הפלטים שהתקבלו. ענו על הסעיפים הבאים:
- כמה בתי ספר יש בעיר?
  - כמה תלמידים השתתפו בסך הכול במחקר?
  - האם קיים הבדל בין בתי הספר בעיר מבחינה רמת הציונים? בדקו ברמת מובהקות של 1%
  - בביטחון של 95% אילו בתי ספר שונים זה מזה ברמת התלמידים? נמקו והסבירו.

**Oneway**

**ANOVA**

grade

	Sum of Squares	df	Mean Square	F	Sig.
Between Groups	7799.600	4	1949.900	13.586	.000
Within Groups	2870.400	20	143.520		
Total	10670.000	24			

## Post Hoc Tests

### Multiple Comparisons

grade

Scheffe

(I) school	(J) school	Mean Difference (I-J)	Std. Error	Sig.	95% Confidence Interval	
					Lower Bound	Upper Bound
1.00	2.00	5.40000	7.57681	.971	-20.2543	31.0543
	3.00	36.80000*	7.57681	.003	11.1457	62.4543
	4.00	36.40000*	7.57681	.003	10.7457	62.0543
	5.00	-2.60000	7.57681	.998	-28.2543	23.0543
2.00	1.00	-5.40000	7.57681	.971	-31.0543	20.2543
	3.00	31.40000*	7.57681	.011	5.7457	57.0543
	4.00	31.00000*	7.57681	.013	5.3457	56.6543
	5.00	-8.00000	7.57681	.888	-33.6543	17.6543
3.00	1.00	-36.80000*	7.57681	.003	-62.4543	-11.1457
	2.00	-31.40000*	7.57681	.011	-57.0543	-5.7457
	4.00	-.40000	7.57681	1.000	-26.0543	25.2543
	5.00	-39.40000*	7.57681	.001	-65.0543	-13.7457
4.00	1.00	-36.40000*	7.57681	.003	-62.0543	-10.7457
	2.00	-31.00000*	7.57681	.013	-56.6543	-5.3457
	3.00	.40000	7.57681	1.000	-25.2543	26.0543
	5.00	-39.00000*	7.57681	.001	-64.6543	-13.3457
5.00	1.00	2.60000	7.57681	.998	-23.0543	28.2543
	2.00	8.00000	7.57681	.888	-17.6543	33.6543
	3.00	39.40000*	7.57681	.001	13.7457	65.0543
	4.00	39.00000*	7.57681	.001	13.3457	64.6543

\*. The mean difference is significant at the 0.05 level.

## Homogeneous Subsets

grade

Scheffe<sup>a</sup>

school	N	Subset for alpha = 0.05	
		1	2
3.00	5	45.0000	
4.00	5	45.4000	
2.00	5		76.4000
1.00	5		81.8000
5.00	5		84.4000
Sig.		1.000	.888

Means for groups in homogeneous subsets are displayed.

a. Uses Harmonic Mean Sample Size = 5.000.

## תשובות סופיות

1) א. משתנה בלתי תלוי : סוג התרופה. ב. ניתוח שונות חד כיווני

$$H_0 : \mu_1 = \mu_2 = \mu_3$$

$$H_1 : otherwise$$

משתנה תלוי : הזמן עד להשפעת התרופה בדקות.

ג. 1. מדגמים בלתי תלויים.

2. שוויון שונויות.

3. משתנים מתפלגים נורמלית.

2) א. המבחן לניתוח שונות חד כיוונית.

$$H_0 : \mu_1 = \mu_2 = \mu_3$$

$$H_1 : otherwise$$

הנחות :

1. מדגמים בלתי תלויים.

2. משתנים מתפלגים נורמלית.

3. שוויון שונויות.

ב. גודל המדגם : 14. משתנה ב"ת : בית הספר, בעל 3 רמות.

$$g. \bar{X} = 71.8, \hat{S} = 12.93, \bar{X} = 73.75, \hat{S} = 19.29, \bar{X} = 80.4, \hat{S} = 5.46$$

ד. להלן טבלה :

F	MS	df	SS	מקור השונות
	100.3	2	200.6	B
	173.2	11	1904.75	W
0.58		13	2105.35	סה"כ

ה.  $F > 3.98$  .

ו. נקבל את  $H_0$  .

3) א.  $H_0 : \mu_1 = \mu_2 = \mu_3 = \mu_4$  . ב. נדחה את  $H_0$  . ג. כן.

$$H_1 : otherwise$$

הנחות :

1. מדגמים בלתי תלויים.

2. שוויון שונויות.

3. משתנים מתפלגים נורמלית.

4) נקבל את  $H_0$  : נכריע שאין הבדל מובהק בין האופים מבחינת תוחלת זמן הכנה.

$$H_0 : \mu_1 = \mu_2 = \mu_3 = \mu_4 \quad (5)$$

$$H_1 : otherwise$$

הנחות :

1. מדגמים בלתי תלויים.

2. שוויון שונות.

3. משתנים מתפלגים נורמלית.

נקבל את  $H_0$  : לסוג סוללה אין השפעה של תוחלת החיים ברמת ביטחון של 10%.

6) להלן טבלה :

### ANOVA

	Sum of Squares	df	Mean Square	F	Sig.
Between Groups	357.450	2 ב	178.725 ג	18.36 ה	.000
Within Groups	165.5 א	17	9.735 ד		
Total	522.950	19			

$$H_0 : \mu_1 = \mu_2 = \mu_3 \quad (7) \quad \text{א.}$$

$$H_1 : otherwise$$

הנחות :

1. מדגמים בלתי תלויים.

2. משתנים מתפלגים נורמלית.

3. שוויון שונות.

נדחה את  $H_0$  : ברמת ביטחון של 5% קיים הבדל במינונים השונים מבחינת תוחלת הדופק.

$$\text{ב. ראה וידאו. ג. כן. ד. } \mu_{20} = \mu_{10} > \mu_{30} .$$

$$5 \text{ א. } 25 \text{ ב.} \quad (8)$$

ג. נדחה את  $H_0$  : יש לפחות שני בתי ספר בעיר עם תוחלת רמת ציונים שונה.

$$\text{ד. } (\mu_3 = \mu_4) < (\mu_1 = \mu_2 = \mu_3) .$$

## סטטיסטיקה ב

פרק 18 - מקדם המתאם ( מדד קשר ) הלינארי ומובהקותו

תוכן העניינים

1. מקדם המתאם הלינארי ( פירסון) ..... 118
2. חישוב מקדם המתאם הלינארי (פירסון) ..... 129
3. ניתוח פלטים על מקדם המתאם הלינארי ..... 134

## מקדם המתאם (מדד קשר) הלינארי ומובהקותו

### מדד הקשר הלינארי (פירסון) – מבוא

מעוניינים לבדוק עד כמה קיים קשר מסוג קשר לינארי (קו ישר) בין שני משתנים. שני המשתנים שאנו בודקים לגביהם קשר צריכים להיות משתנים כמותיים. מבחינת סולמות מדידה כל משתנה נחקר צריך להיות מסולם רווחים או מנה. בדרך כלל המשתנה המוצג כ-  $Y$  הוא המשתנה התלוי והמשתנה המוצג ב-  $X$  הוא המשתנה הבלתי תלוי. תיאור גרפי לנתונים נעשה על ידי דיאגרמת פיזור. בדיאגרמת פיזור אנחנו מסמנים כל תצפית בנקודה לפי שיעור ה-  $X$  ושיעור ה-  $Y$  שלה. דיאגרמת הפיזור נותנת אינדיקציה גרפית על הקשר בין שני המשתנים.

### דוגמה (פתרון בהקלטה) :

בבניין 8 דירות בדקו לכל דירה את מספר החדרים שלה וכמו כן את מספר הנפשות הגרות בדירה. להלן התוצאות שהתקבלו :

4	4	3	3	2	3	2	2	מספר חדרים בדירה
5	4	4	3	2	2	1	0	מספר הנפשות בדירה

- (1) כמה תצפיות ישנן בדוגמה?
- (2) כמה משתנים ישנם בדוגמה, מי הם?
- (3) שרטטו לנתונים דיאגרמת פיזור.
- (4) מי המשתנה התלוי ומיהו המשתנה הבלתי תלוי?



מקדם מתאם 1-או 1 אומר שקיים קשר לינארי מלא בין המשתנים שניתן לבטאו על ידי נוסחה של קו ישר:  $y = ax + b$ .

### מתאם חיובי מלא (מקדם מתאם 1):

קיים קשר לינארי מלא בו השיפוע  $a$  יהיה חיובי ואילו מתאם שלילי (מקדם מתאם-1) מלא אומר שקיים קשר לינארי מלא בו השיפוע  $a$  שלילי.

### מתאם חיובי חלקי:

ככל שמשנתנה אחד עולה לשני יש נטייה לעלות בערכו אבל לא קיימת נוסחה לינארית שמקשרת את  $X$  ל- $Y$  באופן מוחלט ואילו מתאם שלילי חלקי אומר שככל שמשנתנה אחד עולה לשני יש נטייה לרדת אבל לא קיימת נוסחה לינארית שמקשרת את  $X$  ל- $Y$  באופן מוחלט. ככל שמקדם המתאם קרוב לאפס עוצמת הקשר יותר חלשה וככל שהמדד רחוק יותר מהאפס העוצמה יותר חזקה. לסיכום, מקדם המתאם בודק את עוצמת הקשר הלינארי, ואת כיוון הקשר.

מקדם המתאם הלינארי אינו מושפע מיחידות המדידה. כל שינוי ביחידות המדידה של המשתנים, לא ישנה את מקדם המתאם.

מדד הקשר הלינארי באוכלוסייה, שנקרא גם מקדם המתאם של פירסון או מדד הקשר של פירסון באוכלוסייה מסומן ב:  $\rho$  - פרמטר המאפיין את עוצמת הקשר הלינארי באוכלוסייה וכיוונו בין שני המשתנים הנחקרים. כאשר:

$r$  - מדד הקשר הלינארי במדגם שמהווה אומדן לפרמטר  $\rho$ .

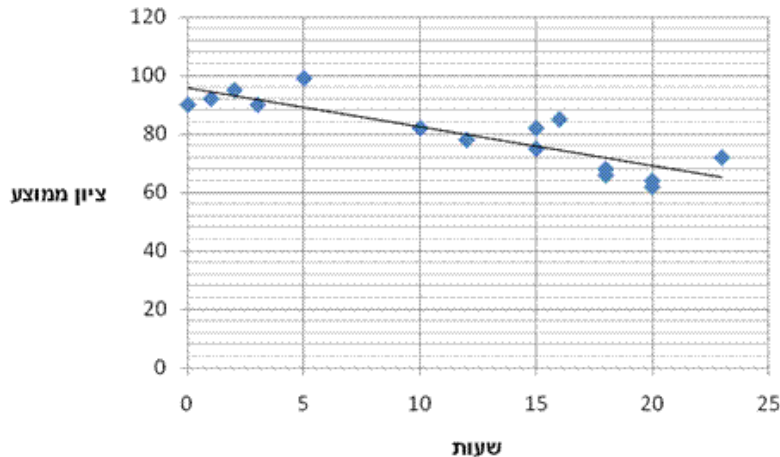
קיומו של מתאם בין שני משתנים אינו מצביע על סיבתיות בהכרח. למשל, אם נמצא מתאם חיובי בין כמות הסוכרזית שאדם אוכל לבין במשקל שלו אין זה אומר שהסיבה להשמנה היא הסוכרזית. מדד הקשר של פירסון הוא מדד קשר סימטרי, כלומר אם נחליף את  $X$  ב- $Y$  התוצאה תהיה זהה.

### דוגמה (פתרון בהקלטה):

- מה ניתן להגיד על מקדם המתאם של שני המשתנים על סמך דיאגרמת הפיזור ששרטטנו?
- אם היינו משנים את השרטוט כך שבציר האנכי היה המשתנה "מספר החדרים" ובציר האופקי היה "מספר הנפשות", האם הדבר היה משפיע על מדד הקשר של פירסון?

**שאלות**

1) חוקר רצה לאפיין את הקשר בין מספר השעות בשבוע שסטודנט מקדיש לבילויים לבין הציון הממוצע שלו בסוף הסמסטר. לשם כך הוא אסף נתונים של 15 סטודנטים ויצר דיאגרמת פיזור:



- א. מיהו המשתנה הבלתי תלוי?
- ב. מה ניתן לומר על כיוון הקשר בין מספר שעות הבילוי השבועיות לבין הציון הממוצע של הסמסטר? מה ניתן להגיד על עוצמת הקשר?

2) להלן טבלה המסכמת את מקדמי המתאם הלינארי בין ציוני מבחנים שונים שהתקבלו עבור תלמידים בכיתה מסוימת:

מתמטיקה	לשון	ספורט	
?	-0.7	?	ספורט
0.6	?	?	לשון
?	?	-0.1	מתמטיקה

- א. השלימו את מקדמי המתאם שמסומנים בסימן שאלה בטבלה.
- ב. בין אילו שני ציוני מקצועות שונים קיים מתאם בעל העוצמה החזקה ביותר?

3) במחקר נתבקשו לבדוק את הקשר בין מספר שעות התרגול של קורס לבין הציון הסופי שלו. להלן תוצאות מדגם שהתקבל:

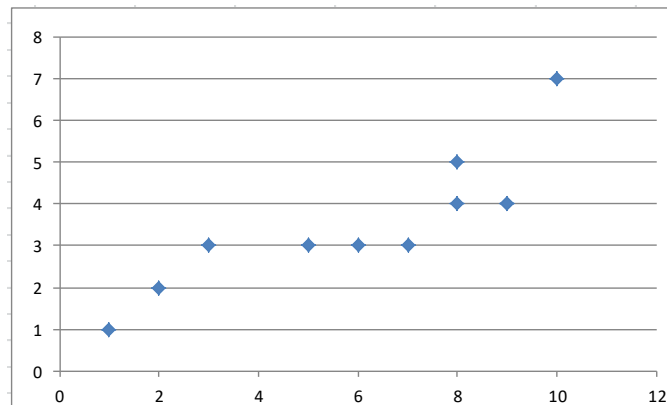
שעות תרגול	ציון סופי
20	90
25	90
30	95
15	60
30	90
20	85
10	50

- א. מיהו המשתנה התלוי ומיהו המשתנה הבלתי תלוי בדוגמה זו?
- ב. שרטטו דיאגרמת פיזור לנתונים.
- ג. מה ניתן לומר על הקשר בין המשתנים במדגם?
- ד. מסתבר שבסופו של דבר נתנו פקטור של 5 נקודות לציון הסופי. כיצד הדבר היה משנה את מקדם המתאם של המדגם?

4) בתחנה המטאורולוגית רצו לבדוק את הקשר שבין הטמפרטורה במעלות צלזיוס לכמות המשקעים במ"מ. הם אספו נתונים על 10 ימים במהלך חודש ינואר. המתאם שהתקבל היה 0.8.

- א. השלימו את המשפט:  
בחודש ינואר ככל שהטמפרטורה היומית נוטה לרדת, כך כמות המשקעים נוטה \_\_\_\_\_.
- ב. הוחלט להעביר את הטמפרטורה למעלות פרנהייט על מנת שיוכלו להשוות אותה לנתונים מארה"ב. נוסחת המעבר היא  $F^0 = 32 + \frac{9}{5}C^0$ .  
כיצד הדבר ישפיע על מקדם המתאם בין הטמפרטורה במעלות פרנהייט לכמות המשקעים במ"מ?

5) להלן דיאגרמת פיזור המראה קשר בין שני משנים:

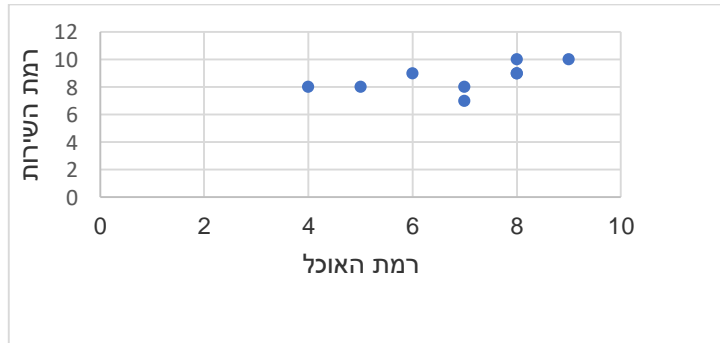


- א. השלימו: ניתן לראות שהקשר הוא לינארי \_\_\_\_\_ (מלאו חלקי) כיוון הקשר הוא (חיובי/שלילי).
- ב. השלימו: אם היינו מוסיפים תצפית שערך ה-  $X$  שלה הוא 4 וערך ה-  $Y$  שלה הוא 7, מקדם המתאם של פירסון היה \_\_\_\_\_ (גדלו קטן/לא משתנה).

**שאלות רב ברירה (יש לבחור את התשובה הנכונה):**

- 6) חוקר אקלים דגם כמה ימים בשנה ומדד את הטמפרטורה בטורונטו שבקנדה ואת הטמפרטורה בסידני שבאוסטרליה באותו היום. הוא חישב ומצא מקדם מתאם שלילי בין הטמפרטורה היומית בטורונטו לבין הטמפרטורה היומית בסידני. משמעות מקדם המתאם השלילי במדגם:
- א. אין קשר בין הטמפרטורה בטורונטו לבין הטמפרטורה בסידני בימים שנדגמו.  
ב. במדגם, רוב הטמפרטורות בטורונטו היו שליליות.  
ג. ההפרש בין הטמפרטורה בטורונטו לבין הטמפרטורה באוסטרליה, במדגם זה, הוא שלילי.  
ד. במדגם יש נטייה שהטמפרטורה יורדת בטורונטו לטמפרטורה לעלות בסידני.

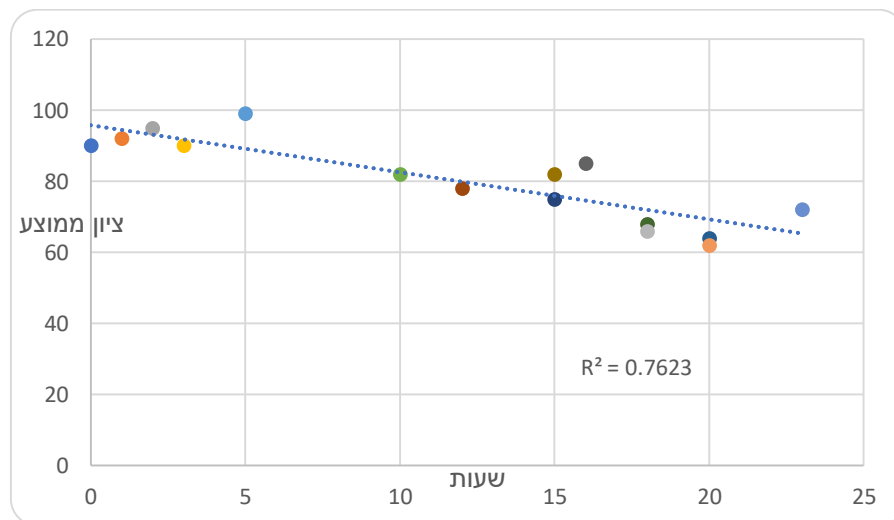
- 7) בסקר שביעות רצון שנערך בבית הקפה "פת לחם" התבקשו הלקוחות לדרג את מידת שביעות הרצון שלהם (בסולם 1-10) בשני נושאים: רמת האוכל ורמת השירות.



מה יהיה ערכו של מקדם המתאם ( $r$ )?

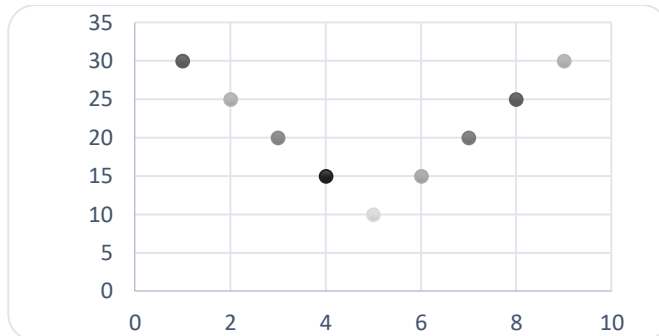
- א.  $r = -0.3$   
 ב.  $r = 0$   
 ג.  $r = 1.125$   
 ד.  $r = 0.593$

- 8) חוקר רצה לאפיין את הקשר בין מספר השעות בשבוע שסטודנט מקדיש לבילויים לבין הציון הממוצע שלו בסוף הסמסטר. לשם כך הוא אסף נתונים של 15 סטודנטים ויצר דיאגרמת פיזור.



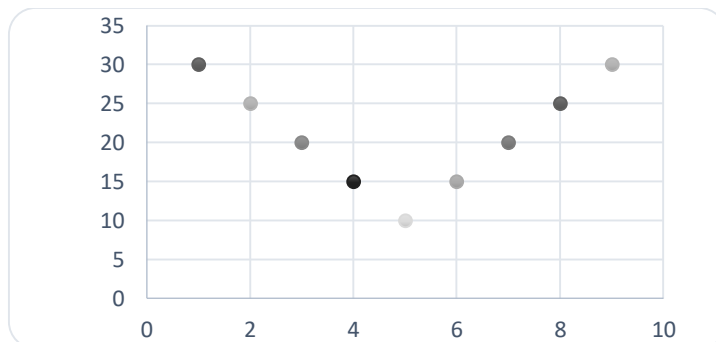
- מה ניתן לומר על כיוון הקשר במדגם בין מספר שעות הבילוי השבועיות לבין הציון הממוצע של הסמסטר?
- א. ככל שמבלים יותר הציון נוטה לרדת.  
 ב. אין קשר בין שעות הבילוי לציון.  
 ג. ככל שמבלים פחות הציון נוטה לרדת.  
 ד. ככל שהציון נוטה לרדת הסטודנט מבלה פחות.

9) התרשים הבא מתאר קשר בין שני משתנים, איזה מהמתאמים הבאים הוא המתאים ביותר לתיאור הקשר בין שני המשתנים?



- א.  $r = 1$  היות ושני המשתנים יוצרים קוים ישרים.  
 ב.  $r = 2$  היות ויש שני קוים בעלי קשר מושלם.  
 ג.  $r = 0$  היות והקו יורד ואחר כך עולה באותו האופן.  
 ד.  $r = \pm 1$  היות ויש קו עולה וגם קו יורד.

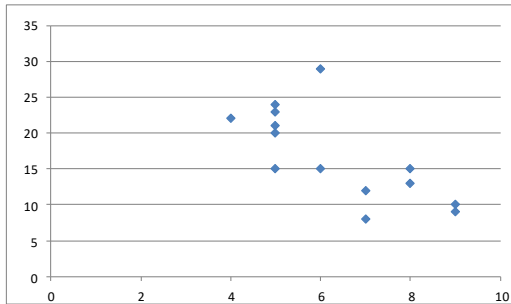
10) התרשים הבא מתאר דיאגרמת פיזור.



איזו טענה נכונה?

- א. בתרשים מוצג הקשר בין שני משתנים.  
 ב. בתרשים מוצג הקשר בין 9 משתנים.  
 ג. בתרשים מוצג הקשר בין 10 משתנים.  
 ד. אין לדעת כמה משתנים מוצגים בתרשים.

בגרף הבא מתוארת דיאגרמת פיזור של שני משתנים:



$X$  - (משתנה בלתי תלוי בציר האופקי)  
ו-  $Y$  (משתנה תלוי).

במדגם התקבל  $r^2 = 0.52$ .

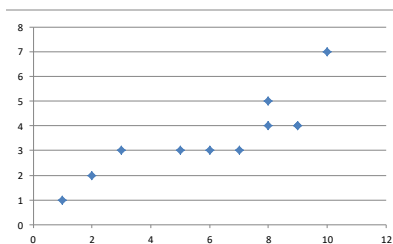
11) לאור הנתונים המופיעים בדיאגרמה, איזה מבין הערכים הבאים מתאים להיות התוצאה של  $r$ ?

- א. -0.52
- ב. 0.72
- ג. -0.72
- ד. 0.52

12) אם מקדם המתאם בין שני משתנים הוא 1, אזי:

- א. הערכים של המשתנים הם חיוביים.
- ב. עבור כל תצפית ערך של משתנה אחד שווה לערך של המשתנה השני.
- ג. הקשר הלינארי הוא בעוצמה חזקה.
- ד. אף אחת מהתשובות לא בהכרח נכונה.

13) להלן דיאגרמת פיזור:



מה יהיה מקדם המתאם בין שני המשתנים?

- א. 1
- ב. 0.85
- ג. 0.15
- ד. 0

14) בבדיקת קשר בין שני משתנים התקבל:  $r = -1$ .

- א. קיימת נוסחה לינארית הקושרת בין כל התצפיות.
- ב. לא קיים קשר בין שני המשתנים.
- ג. ככל שמשתנה אחד נוטה לרדת גם לשני יש נטייה לרדת.
- ד. קיים קשר בין שני המשתנים, אך לא ניתן לדעת מאיזה סוג.

15) לפי הפתגם "רחוק מהעין, רחוק מהלב", יש קשר \_\_\_\_ בין קרבה פיזית לקרבה נפשית.

- א. חיובי
- ב. שלילי
- ג. אפסי
- ד. לא ניתן לדעת.

16) מבחן אמי"ר הינו מבחן מיון באנגלית של המרכז הארצי לבחינות והערכה. הציון המינימלי בבחינה הינו 150 והמקסימלי הינו 250. בקורס הכנה למבחן השתתפו 19 תלמידים. להלן הציונים שלהם על פי פלט שהתקבל :

	159
	170
	180
	185
	204
	224
	236
	212
	168
	189
	195
	163
	187
	206
	201
	223
	242
	203
	205
197.47	AVERAGE
536.25	VARPA

יש להוסיף עמודה נוספת לצד עמודת הציונים שתראה לכל תלמיד כמה נקודות חסרות לו כדי להשלים לציון המקסימלי בבחינה.

מה יהיה מקדם המתאם בין שתי העמודות (כלומר, מקדם המתאם בין הציון לבין הנקודות החסרות)?

- א. -1
- ב. 1
- ג. -0.5
- ד. 0.5

17) מקדם המתאם בין שטחי דירה למחיר שלהם חושב ונמצא 1.2. מה נובע מכך?

- א. ככל שהדירה גדולה יותר בשטחה כך היא יקרה יותר.
- ב. ככל שהדירה קטנה יותר בשטחה כך היא זולה יותר.
- ג. לא קיים קשר בין שטח הדירה למחיר הדירה.
- ד. מצב כזה שמתואר הנתונים לא אפשרי.

18) אם ניקח 10 אנשים ונרשום לכל אדם את הגובה במטר וכמו כן את הגובה בס"מ. מה יהיה מקדם המתאם בין גובה האדם במטר לגובה האדם בס"מ?

- א. 1
- ב. 0
- ג. -1
- ד. לא ניתן לדעת.

- 19) נמצא מתאם חיובי בעוצמה גבוהה בין  $X$  – ציון בבגרות בלשון ל  $Y$  – ציון בבגרות במתמטיקה. אילו מהמשפטים הבאים נכון?
- א. ניתן לומר שאחת מהסיבות להבדלים שיש לסטודנטים במתמטיקה נובעים מההבדלים שיש להם בלשון.
- ב. קיימת נוסחה של קו ישר שקושרת בין ציון בבגרות במתמטיקה לציון בבגרות בלשון.
- ג. ללא יוצא מן הכלל, ניתן להגיד שכל תלמיד שמצליח יותר מתלמיד אחר בלשון גם יצליח יותר מאותו תלמיד במתמטיקה.
- ד. אף אחד מהטענות שהוצגו אינה בהכרח נכונה.

- 20) עבור סדרה של תצפיות מדדו את  $X$  ואת  $Y$ . נמצא שעבור כל התצפיות שהערך של  $Y$  ירד הערך של  $X$  בהכרח ירד ללא יוצא מן הכלל. מקדם המתאם של פירסון יהיה בהכרח:
- א. 1
- ב. -1
- ג. 0
- ד. אף אחת מהתשובות.

## תשובות סופיות

- (1) א. שעות בילוי.  
 ב. הקשר חלקי, כיוון הקשר שלילי.  
 (2) א. להלן טבלה:

מתמטיקה	לשון	ספורט	
0.1	-0.7	1	ספורט
0.6	1	-0.7	לשון
1	0.6	-0.1	מתמטיקה

- (3) א. ב"ת- מס' שעות התרגול, תלוי- ציון.  
 ג. קשר לינארי חיובי חלקי.  
 (4) א. לעלות.  
 (5) א. חלקי, חיובי.  
 (6) ד' (7) ד' (8) א'  
 (9) ג' (10) א'  
 (11) ג' (12) ד' (13) ב'  
 (14) א' (15) א'  
 (16) א' (17) ד' (18) א'  
 (19) ד' (20) ד'

## מדדי קשר – מדד הקשר הלינארי (פירסון) – רקע

המטרה היא לבדוק האם קיים קשר (קורלציה, מתאם) של קו ישר בין שני משתנים כמותיים. מבחינת סולמות המדידה קשר בין סולמות רווחים ומנה. בדרך כלל,  $X$  הוא המשתנה המסביר (הבלתי תלוי) ו- $Y$  הוא המשתנה המוסבר (התלוי).

**דוגמה:**

נרצה להסביר כיצד השכלה של אדם הנמדדת בשנות לימוד –  $X$  מסבירה את ההכנסה שלו  $Y$ . במקרה זה שנות ההשכלה זהו המשתנה המסביר (או הבלתי תלוי) ואנחנו מעוניינים לבדוק כיצד שינויים בשנות ההשכלה של אדם יכולים להסביר את השינויים שלו בהכנסה, ולכן רמת ההכנסה זהו המשתנה המוסבר התלוי במשתנה המסביר אותו.

**שלב ראשון:** נהוג לשרטט דיאגרמת פיזור. זו דיאגרמה שנותנת אינדיקציה ויזואלית על טיב הקשר בין שני המשתנים.

**דוגמה:**

מס' דירה	$X$	$Y$
1	3	2
2	2	2
3	4	3
4	3	3
5	5	4

בבניין של 5 דירות בדקו את הנתונים הבאים:  
 $X$  - מס' חדרים בדירה.  $Y$  - מס' נפשות הגרות בדירה.  
 להלן התוצאות שהתקבלו:

נשרטט מנתונים אלה דיאגרמת פיזור (הדיאגרמה המלאה בסרטון). נתבונן בכמה מקרים של דיאגרמות פיזור ונתח אותן (הדיאגרמות המלאות בסרטון).

**שלב שני:** מחשבים את מקדם המתאם (מדד הקשר) שבודק עד כמה קיים קשר לינארי בין שני המשתנים. המדד (ניקרא גם מדד הקשר של פירסון) מכמת את מה שניראה בשלב הראשון רק בעין.

המדד בודק את כיוון הקשר (חיובי או שלילי) ואת עוצמת הקשר (חלש עד חזק). מקדם מתאם זה מקבל ערכים בין -1 ל-1.  
 מקדם מתאם -1 או 1 אומר שקיים קשר לינארי מוחלט ומלא בין המשתנים שניתן לבטאו על ידי הנוסחה:  $y = bx + a$ .

**מתאם חיובי מלא (מקדם מתאם 1):**

קיים קשר לינארי מלא בו השיפוע  $b$  יהיה חיובי ואילו מתאם שלילי מלא אומר שקיים קשר לינארי מלא בו השיפוע  $b$  שלילי (מקדם מתאם -1).

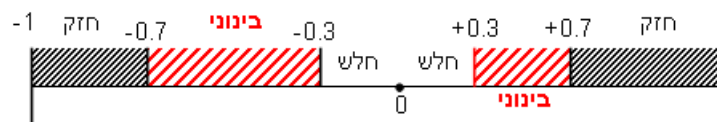
### מתאם חיובי חלקי:

ככל שמשתנה אחד עולה לשני יש נטייה לעלות בערכו אבל לא קיימת נוסחה לינארית שמקשרת את  $X$  ל- $Y$  באופן מוחלט.

### מתאם שלילי חלקי:

ככל שמשתנה אחד עולה לשני יש נטייה לרדת אבל לא קיימת נוסחה לינארית שמקשרת את  $X$  ל- $Y$  באופן מוחלט.

ככל שערך מקדם המתאם קרוב לאפס נאמר שעוצמת הקשר חלשה יותר וככל שמקדם המתאם רחוק מהאפס נאמר שעוצמת הקשר חזקה יותר:



מקדם המתאם יסומן באות  $r$ .

כדי לחשב את מקדם המתאם, יש לחשב את סטיות התקן של כל משתנה ואת השונות המשותפת.

$$COV(x, y) = \frac{\sum (x - \bar{x})(y - \bar{y})}{n} = \frac{\sum xy}{n} - \bar{x} \cdot \bar{y} : \text{שונות משותפת}$$

$$s_x^2 = \frac{\sum_{i=1}^n (x_i - \bar{x})^2}{n} = \frac{\sum_{i=1}^n x_i^2}{n} - \bar{x}^2 : \text{שונות של המשתנה } X$$

$$S_y^2 = \frac{\sum_{i=1}^n (y_i - \bar{y})^2}{n} = \frac{\sum_{i=1}^n y_i^2}{n} - \bar{y}^2 : \text{שונות המשתנה } Y$$

$$r_{xy} = \frac{COV(x, y)}{S_x \cdot S_y} : \text{מקדם המתאם הלינארי}$$

**שאלות**

1) להלן נתונים לגבי שישה תלמידים שנגשו למבחן. בדקו לגבי כל תלמיד את הציון שלו בסוף הקורס וכמו כן את מספר החיסורים שלו מהקורס.

4	3	2	0	1	2	מספר חיסורים
50	70	70	90	90	80	ציון

- א. שרטטו דיאגרמת פיזור לנתונים. מה ניתן להסיק מהדיאגרמה על טיב הקשר בין מספר החיסורים של תלמיד לציונו? מיהו המשתנה הבלתי תלוי ומיהו המשתנה התלוי?
- ב. חשבו את מדד הקשר של פירסון. האם התוצאה מתיישבת עם תשובתך לסעיף א'?
- ג. הסבירו, ללא חישוב, כיצד מקדם המתאם היה משתנה אם היה מתווסף תלמיד שהחסיר 4 פעמים וקיבל ציון 80?

X	Y
10	12
14	15
15	15
18	17
20	21

2) במחקר רפואי רצו לבדוק האם קיים קשר בין רמת ההורמון X בדם החולה לרמת ההורמון Y שלו. לצורך כך מדדו את רמת ההורמונים ההלו עבור חמישה חולים. להלן התוצאות שהתקבלו:

א. מה הממוצע של כל רמת הורמון?

ב. מהו מקדם המתאם בין ההורמונים? ומה משמעות התוצאה?

3) נסמן ב-X את ההכנסה של משפחה באלפי ₪. נסמן ב-Y את ההוצאות של משפחה באלפי ₪. נלקחו 20 משפחות והתקבלו התוצאות הבאות:

$$\sum_{i=1}^{20} Y_i = 200 \qquad \sum_{i=1}^{20} X_i = 240$$

$$\sum_{i=1}^{20} (Y_i - \bar{Y})^2 = 76 \qquad \sum_{i=1}^{20} (X_i - \bar{X})^2 = 76$$

$$\sum_{i=1}^{20} (X_i - \bar{X})(Y_i - \bar{Y}) = 60.8$$

- א. חשב את מדד הקשר הלינארי בין X ל-Y. מיהו המשתנה התלוי?
- ב. מה המשמעות של התוצאה שקיבלת בסעיף א'?

4) נסמן ב- $X$  את ההכנסה של משפחה באלפי ₪. נסמן ב- $Y$  את ההוצאות של משפחה באלפי ₪. נלקחו 20 משפחות והתקבלו התוצאות הבאות:

$$\sum_{i=1}^{20} Y_i = 200 \quad \sum_{i=1}^{20} X_i = 240$$

$$\sum_{i=1}^{20} Y_i^2 = 2080 \quad \sum_{i=1}^{20} X_i^2 = 2960$$

$$\sum_{i=1}^{20} X_i Y_i = 2464$$

חשבו את מדד הקשר הלינארי בין  $X$  ל- $Y$ .

5) במוסד אקדמי ציון ההתאמה מחושב כך: מכפילים את הציון הממוצע בבגרות ב-3 ומפחיתים 2 נקודות. ידוע שעבור 40 מועמדים סטיית התקן של ממוצע הציון בבגרות הייתה 2.  
מה מקדם המתאם בין ציון ההתאמה לציון הממוצע בבגרות שלהם?

6) להלן רשימת טענות, לגבי כל טענה קבעו נכון/לא נכון ונמקו.  
א. מתווך דירות המיר מחירי דירות מדולר לשקל. נניח שדולר אחד הוא 3.5₪. אם מתווך הדירות יחשב את מדד הקשר של פירסון בין מחיר הדירה בשקלים למחיר הדירה בדולרים הוא יקבל 1.  
ב. לסדרה של נתונים התקבל  $\bar{X} = \bar{Y} = 6$ ,  $S_x = S_y = 1$ . לכן, מדד הקשר של פירסון יהיה 1.  
ג. אם השונות המשותפת של  $X$  ושל  $Y$  הינה 0 אז בהכרח גם מקדם המתאם של פירסון יהיה 0.

### שאלות רב-ברירה:

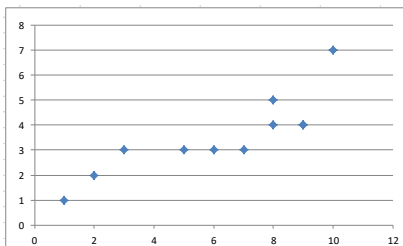
7) נמצא שקיים מקדם מתאם שלילי בין הציון בעברית לציון בחשבון בבחינה לכן:  
א. הדבר מעיד שהציונים בכתה היו שליליים.  
ב. ככל שהציון של תלמיד יורד בחשבון יש לו נטייה לרדת בעברית.  
ג. ככל שהציון של תלמיד עולה בחשבון יש לו נטייה לרדת בעברית.  
ד. אף אחת מהתשובות לא נכונה.

8) נלקחו 20 מוצרים ונבדק ביום מסוים המחיר שלהם בדולרים והמחיר שלהם בש"ח (באותו היום ערך הדולר היה-4.2ש). מהו מקדם המתאם בין המחיר בדולר למחיר בש"ח?

- א. 1  
 ב. 0  
 ג. 4.2  
 ד. לא ניתן לדעת.

9) להלן דיאגרמת פיזור:

מה יהיה מקדם המתאם בין שני המשתנים?



- א. 1  
 ב. 0.85  
 ג. 0.15  
 ד. 0

## תשובות סופיות

- 1) א. משתנה תלוי: ציון, משתנה ב"ת: מס' חיסורים. ראה דיאגרמה בוידאו. ניתן להסיק שקיים קשר לינארי שלילי וחלקי בין מספר החיסורים לציון התלמיד.  
 ב. -0.9325.  
 ג. הקשר יישאר לינארי שלילי חלקי אך עוצמתו תחלש.
- 2) א.  $\bar{y} = 16$ ,  $\bar{x} = 15.4$     ב.  $r_{xy} = 0.96$ .
- 3) א. 0.8  
 4) 0.8  
 5) 1  
 6) א. נכון.    ב. לא נכון.    ג. נכון.  
 7) ג'.  
 8) א'.  
 9) ב'.

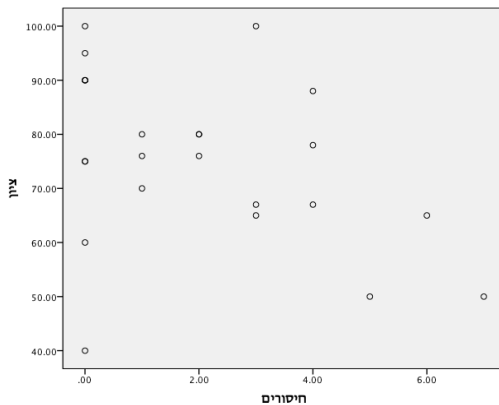
## מדד הקשר הלינארי – ניתוח פלטים – רקע

מדד הקשר הלינארי באוכלוסייה, שנקרא גם מקדם המתאם של פירסון או מדד הקשר של פירסון באוכלוסייה מסומן ב:  $\rho$  - פרמטר המאפיין את עוצמת הקשר הלינארי באוכלוסייה וכיוונו בין שני המשתנים הנחקרים. כאשר:

$r$  - מדד הקשר הלינארי במדגם שמהווה אומד לפרמטר  $\rho$ .

השערת האפס: תהיה שבאוכלוסייה לא קיים כלל קשר לינארי בין שני המשתנים:  $H_0: \rho = 0$ .  
 ההנחה שעליה אנו מתבססים בתהליך היא ששני המשתנים הנחקרים מתפלגים דו נורמלית.  
**דוגמה (פתרון בהקלטה):**

הדיקן ביקש לדגום סטודנטים כדי לבדוק את הקשר בין ציון הסטודנט בקורס למספר הפעמים שהוא החסיר שיעור בקורס. דיאגרמת הפיזור שהתקבלה במדגם שבוצע:



- א. מיהו המשתנה התלוי ומיהו המשתנה הבלתי תלוי במחקר?
- ב. מה ניתן לראות לגבי הקשר הלינארי בין המשתנים שהתקבל בהתקבל במדגם?

Correlations

		חיסורים	ציון
חיסורים	Pearson Correlation	1	-.389
	Sig. (2-tailed)		.060
	N	24	24
ציון	Pearson Correlation	-.389	1
	Sig. (2-tailed)	.060	
	N	24	24

- ג. מהו מקדם המתאם שהתקבל במדגם? מה המשמעות שלו?
- ד. האם ניתן להגיד ברמת מובהקות של 5% שקיים מתאם לינארי שלילי בין מספר החיסורים של הסטודנטים מהקורס לבין הציון של הסטודנטים בקורס?

## שאלות

1) מחקר רפואי התעניין לבדוק האם קיים קשר לינארי בין גיל האישה בהריון לרמת ההמוגלובין שלה. להלן תוצאות מדגם שהתקבלו, עבור נשים בהריון:

Correlations

		age	hemoglobin
age	Pearson	1	.565
	Correlation		
	Sig. (2-tailed)	.005	
	N	23	23
hemoglobin	Pearson	.565	1
	Correlation		
	Sig. (2-tailed)	.005	
	N	23	23

- א. מהי אוכלוסיית המחקר?
- ב. מהן השערות המחקר?
- ג. מהו המשתנה הבלתי תלוי ומהו המשתנה התלוי במחקר?
- ד. מהי מסקנת המחקר ברמת מובהקות של 5%?

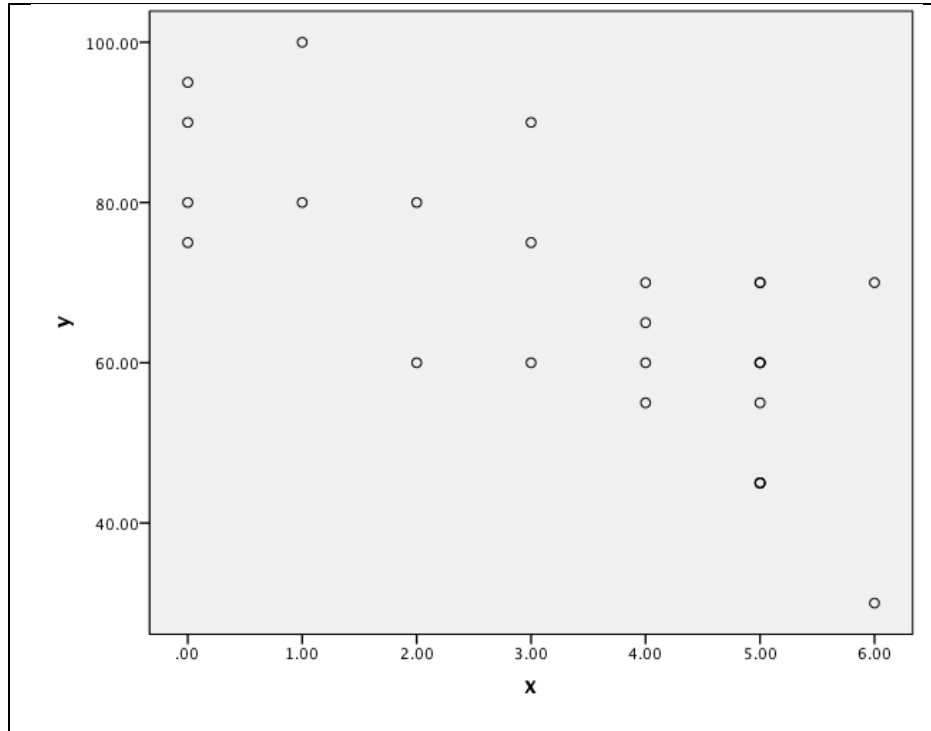
2) במדגם שנעשה נבדקו מספר משתנים על התצפיות שנדגמו. להלן פלט שהופק על המדגם:

Correlations

		x	y	z	w
x	Pearson	???	-.682	.134	.176
	Correlation				
	Sig. (2-tailed)		.005	.634	.530
	N	15	15	15	15
y	Pearson	-.682	1	???	-.555
	Correlation				
	Sig. (2-tailed)	.005		.544	.032
	N	15	15	15	15
z	Pearson	.134	.170	1	-.247
	Correlation				
	Sig. (2-tailed)	???	.544		.374
	N	15	15	15	15
w	Pearson	.176	-.555	-.247	1
	Correlation				
	Sig. (2-tailed)	.530	.032	.374	
	N	15	15	15	15

- א. בין אילו שני משתנים שונים הקשר הלינארי במדגם נמצא עם העוצמה הכי חזקה?
- ב. ברמת מובהקות של 5%, אילו שני משתנים בעל קשר לינארי מובהק?
- ג. השלימו את המספרים המסומנים בפלט בסימני שאלה.

3) נדגמו מספר תלמידים בכיתה יב' ובדקו לכל תלמיד:  $X$  - מספר שעות שבועיות שהתלמיד צופה בטלוויזיה ביום  $Y$  - ציון הבגרות שלו במתמטיקה. להלן התוצאות שהתקבלו במחקר:



Correlations

		x	y	
x	Pearson	1	-.741**	
	Correlation			
	Sig. (2-tailed)			.000
	N			26
y	Pearson	-.741**	1	
	Correlation			
	Sig. (2-tailed)			.000
	N			26

\*\* . Correlation is significant at the 0.01 level (2-tailed).

- א. מהו המשתנה התלוי ומהו המשתנה הבלתי תלוי?
- ב. מהו כיוון הקשר שהתקבל במדגם ומהו עוצמתו?
- ג. האם ניתן להגיד שבאופן מובהק ככל שתלמיד צופה יותר בטלוויזיה הוא מצליח פחות בבגרות במתמטיקה?
- ד. בהמשך לסעיף הקודם, האם ניתן להגיד שהסיבה להצלחה או אי הצלחה בבגרות במתמטיקה היא זמן הצפייה בטלוויזיה?

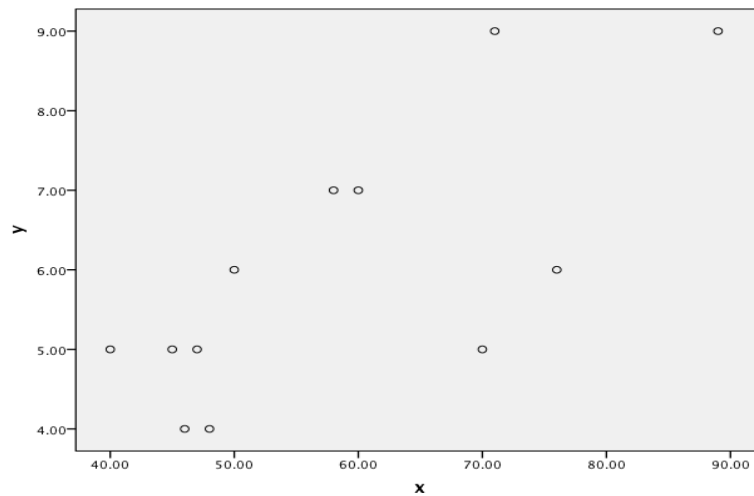
4) נדגמו ילדים בגיל 8 ונבדק עבור כל ילד גובהו בס"מ ומשקלו בק"ג. להלן הפלט שהתקבל עבור תוצאות המדגם:

### Correlations

		גובה	משקל
גובה	Pearson		
	Correlation	1	.552
	Sig. (2-tailed)		.062
	N	12	12
משקל	Pearson		
	Correlation	.552	1
	Sig. (2-tailed)	.062	
	N	12	12

- בדקו ברמת מובהקות של 5% האם קיים קשר לנארי חיובי בין המשקל והגובה.
- באילו רמות מובהקות ניתן לקבוע שקיים קשר לנארי חיובי בין במשקל והגובה?
- כיצד התשובה לסעיף הקודם הייתה משתנה אם היו מתווספות עוד 3 תצפיות למדגם?

5) בתהליך כימי מסוים חוקר בדק את הקשר בין הטמפרטורה בתהליך ( $X$ ) לבין אחוז החומר ( $Y$ ) בתהליך. דיאגרמת הפיזור שהתקבלה היא:



Correlations

		x	y
x	Pearson Correlation	1	.732**
	Sig. (2-tailed)		.007
	N	12	12
y	Pearson Correlation	.732**	1
	Sig. (2-tailed)	.007	
	N	12	12

\*\* . Correlation is significant at the 0.01 level (2-tailed).

- מה ניתן להגיד על סמך הפלט על הקשר שנימצא במדגם בין הטמפרטורה בתהליך לאחוז החומר?
- האם הקשר בין הטמפרטורה בתהליך לבין אחוז החומר הוא קווי חיובי מובהק? בדקו ברמת מובהקות של 5%.
- מה היה קורה למקדם המתאם במדגם ומובהקות התוצאה אם הייתה מתווספת תצפיות שבה הטמפרטורה היא 40 ואחוז החומר 9?

## תשובות סופיות

- (1) א. נשים בהריון. ב.  $H_0 : p = 0$   
 $H_1 : p \neq 0$
- ג. משתנה תלוי – רמת ההמוגלובין, משתנה בלתי תלוי- גיל.  
 ד. קיים קשר לינארי בין גיל האישה בהריון לרמת ההמוגלובין שלה בדם.
- (2) א. בין  $X$  ל- $Y$ . ב.  $X$  ו- $Y$ . כמו כן,  $W$  ו- $Y$ . ג. ראה וידאו.  
 ד. לא.
- (3) א. משתנה תלוי – ציון בבגרות במתמטיקה, משתנה בלתי תלוי- שעות צפייה.  
 ב. כיוון שלילי ועוצמה של 0.741. ג. כן. ד. לא.
- (4) א. נדחה את  $H_0$ . ב. לפחות 0.032. ג. לא ניתן לדעת.
- (5) א. קיים קשר לינארי חיובי וחלקי שעוצמתו: 0.732. ב. נדחה את  $H_0$ .  
 ג. מקדם המתאם קטן ומובהקות התוצאה גדלה.

# סטטיסטיקה ב

פרק 19 - רגרסיה

תוכן העניינים

1. כללי ..... 141

## מדדי קשר – רגרסיה ליניארית:

### רקע:

במידה וקיים קשר חזק בין שני המשתנים הכמותיים נהוג לבצע ניבוי. לבנות קו ניבויים הנקרא גם קו רגרסיה המנבא משתנה אחד על סמך האחר. מדובר בקו שמנבא את  $Y$  על סמך  $X$ . השיטה למציאת הקו הנ"ל נקראת שיטת הריבועים הפחותים והקו המתקבל נקרא קו הרגרסיה או קו הניבויים או קו הריבועים הפחותים.  $a$  - נותן את ערך  $Y$  כאשר  $X$  הנו אפס על גבי קו הניבויים. הוא נקרא החותך של הקו.  $b$  - הוא שיפוע הקו נותן בכמה בעצם  $Y$  משתנה כאשר  $X$  גדל ביחידה אחת על גבי קו הניבויים.

להלן המשוואות למציאת הפרמטרים של קו הרגרסיה:  $Y = bX + a$ ,  $b = r \frac{S_y}{S_x}$ .

לצורך בניית קו ניבויים לניבוי  $X$  על סמך  $Y$  נצטרך לעדכן את הנוסחאות בהתאם.

## שאלות:

- (1) נסמן ב-  $X$  את ההכנסה של משפחה באלפי ₪. נסמן ב-  $Y$  את ההוצאות של משפחה באלפי ₪. נלקחו 20 משפחות והתקבלו התוצאות הבאות:

$$\sum_{i=1}^{20} Y_i = 200, \quad \sum_{i=1}^{20} X_i = 240$$

$$\sum_{i=1}^{20} (X_i - \bar{X})^2 = 76, \quad \sum_{i=1}^{20} (Y_i - \bar{Y}) = 76$$

$$\sum_{i=1}^{20} (X_i - \bar{X})(Y_i - \bar{Y}) = 60.8$$

- א. חשבו את מדד הקשר הלינארי בין  $X$  ל-  $Y$ . מיהו המשתנה התלוי?  
 ב. מצאו את קו הרגרסיה לניבוי ההוצאה של משפחה על סמך הכנסה שלה. הסבירו את משמעות הפרמטרים של קו הרגרסיה.  
 ג. משפחת כהן הכניסה 15,000 ₪. מה ההוצאה הצפויה שלה?

- (2) נסמן ב-  $X$  את ההשכלה של אדם בשנות לימוד. נסמן ב-  $Y$  את הכנסתו באלפי ₪. במחקר התקבלו התוצאות הבאות:

$$S_x = 2, \quad S_y = 5, \quad \bar{X} = 14, \quad \bar{Y} = 8, \quad \text{COV}(X, Y) = 7.5$$

- א. חשבו את מדד הקשר של פירסון בין ההשכלה להכנסה.  
 ב. מה ההכנסה הצפויה לאדם שהשכלתו 12 שנים?  
 ג. מה ההשכלה הצפויה לאדם שהכנסתו 10,000 ₪?

- (3) חוקר רצה לחקור את הקשר הקווי שבין הציון המבחן בסטטיסטיקה לבין מספר שעות ההכנה של הסטודנטים למבחן. במדגם של 100 סטודנטים שנבחנו בקורס נרשמו התוצאות הבאות: הציון הממוצע של הסטודנטים היה 65 עם סטיית תקן של 27. מספר שעות ההכנה הממוצע היה 30 עם סטיית תקן של 18. מקדם המתאם בין הציון לשעות ההכנה היה 0.8.

- א. על פי משוואת הרגרסיה, שעת הכנה נוספת משפרת את ציון המבחן ב-?  
 ב. על פי משוואת הרגרסיה, תלמיד שייגש למבחן ללא שעות הכנה כלל יקבל ציון?  
 ג. מהו קו הרגרסיה לניבוי הציון לפי שעות ההכנה?

- (4) נתונים 2 משתנים  $X$  ו-  $Y$ . כמו כן נתון:  $\bar{X} = 1.5, S_x = S_y = 4$ ,  
 וכן שקו הרגרסיה של  $Y$  על בסיס  $X$  הינו:  $Y = -0.2X + 0.5$ .  
 חשבו מהו מקדם המתאם בין  $X$  ל-  $Y$ .

**תשובות סופיות:**

- |                      |                       |             |
|----------------------|-----------------------|-------------|
| ג. 12.4 אלפי ₪.      | ב. $Y = 0.8X + 0.4$ . | א. 0.8 (1)  |
| ג. 14.6 שנים.        | ב. 4.25 אלפי ₪.       | א. 0.75 (2) |
| ג. $Y = 1.2X + 29$ . | ב. 29.                | א. 1.2 (3)  |
|                      |                       | א. -0.2 (4) |

## סטטיסטיקה ב

פרק 20 - מדדי קשר-רגרסיה - שונות מוסברת ושונות לא מוסברת

תוכן העניינים

1. כללי ..... 144

## מדדי קשר – רגרסיה – שונות מוסברת ושונות לא מוסברת:

### רקע:

המטרה ברגרסיה היא להסביר את השונות של המשתנה התלוי. למשל, להסביר את השונות של המשכורת באמצעות הוותק או להסביר את השוני בציונים באמצעות כמות החיסורים.

$r^2$  - החלק מהשונות של המשתנה התלוי מוסבר. השונות המוסברת נקראת גם שונות ניבויים. השונות הלא מוסברת נקראת גם שונות טעויות.

## שאלות:

- (1) נמצא קשר חיובי בעוצמה של 0.7 בין שטח דירה למחירה. כמו כן, נתון שסטיית התקן של מחירי הדירות הינה 200.
- איזה אחוז מהשונות של מחירי הדירות מוסבר על ידי שטח הדירה?
  - איזה אחוז מהשונות של מחירי הדירות לא מוסבר על ידי שטח הדירה?
  - מהי השונות המוסברת ומהי השונות הלא מוסברת של מחירי הדירות?
- (2) להלן רשימת טענות, לגבי כל טענה קבעו נכון/לא נכון ונמקו!
- אם שונות הטעויות שווה ל-0 (השונות הלא מוסברת) אז מקדם המתאם של פירסון יהיה 1.
  - אם מקדם המתאם של פירסון בין שני משתנים הוא 1 אזי שונות הטעויות (השונות הלא מוסברת) תהיה 0.
  - אם השונות המשותפת של  $X$  ושל  $Y$  היא 0 אז בהכרח גם מקדם המתאם של פירסון יהיה 0.

## שאלות רב-ברירה:

- (3) בקשר בין שני משתנים התקבל:  $r^2 = 0.64$ , לכן:

- ללא יוצא מן הכלל ככל שערכי משתנה אחד עולה השני יעלה.
- 64% מהשונות של משתנה אחד מוסבר על ידי המשתנה השני.
- הקשר בין שני המשתנים הוא בעוצמה של 0.64.
- כל התשובות נכונות.

- (4) אם מגדילים את  $r^2$ , ניתן לומר כי:

- אחוז השונות המוסברת יקטן.
- אחוז השונות המוסברת יגדל.
- אחוז השונות המוסברת יישאר ללא שינוי.
- סטיית התקן משתנה.
- לא ניתן לדעת.

- (5) בקורס מבוא לכלכלה ניתנו במשך השנה שני מבחנים : מבחן בסוף סמסטר א'  $X$  ומבחן בסוף סמסטר ב'  $Y$ . כאשר בנו את קו הרגרסיה של הציון במבחן סוף סמסטר ב' לפי הציון במבחן סוף סמסטר א' התקבלה שונות טעויות של 80, ושונות ניבויים של 20.
- לפי נתונים אלו, מקדם המתאם בין הציון במבחן סוף סמסטר א' לבין הציון במבחן סוף סמסטר ב' הוא :
- א. 0.44 .  
 ב. - 0.44 .  
 ג. עוצמת ההקשר הלינארי היא 0.44, אך אין אפשרות לדעת את סימנה.  
 ד. אין אפשרות לחשב את מקדם המתאם.  
 ה. 0.35 .

### תשובות סופיות:

- (1) א. 49% . ב. 51% .  
 ג. שונות מוסברת : 19,600, שונות לא מוסברת : 20,400 .
- (2) א. לא נכון . ב. נכון . ג. נכון .
- (3) ב' .
- (4) ב' .
- (5) ג' .