

# מתמטיקה לחשבונאים ב



## תוכן העניינים

1. פונקציות בשני משתנים לכלכלנים - עקומות שוות ערך ונגזרות חלקיות..... 1
2. כלל השרשרת בפונקציות של מספר משתנים..... 11
3. פונקציות סתומות - שימושים גיאומטריים..... 15
4. פונקציות הומוגניות-משפט אוילר..... 22
5. קיצון ואוכף לפונקציה של שני משתנים..... 29
6. קיצון של פונקציה של שני משתנים תחת אילוץ (כופלי לגראנז')..... 31
7. קיצון של פונקציה של שלושה משתנים תחת אילוצים..... 34
8. קיצון מוחלט של פונקציה בשני משתנים בקבוצה סגורה וחסומה..... 36
9. פתרון וחקירת מערכת משוואות ליניאריות..... 37
10. מטריצות..... 50
11. דטרמיננטות..... 80
12. אינטגרלים בשיטת אינטגרציה בחלקים..... 103
13. האינטגרלים..... (ללא ספר).....

# מתמטיקה לחשבונאים ב

פרק 1 - פונקציות בשני משתנים לכלכלנים - עקומות שוות ערך ונגזרות חלקיות

תוכן העניינים

1. פונקציות של שני משתנים - קווי גובה..... 1
2. נגזרות חלקיות..... 5

## פונקציות של שני משתנים – קווי גובה

### שאלות

- (1) מהו תחום ההגדרה של הפונקציה:  $f(x, y) = \frac{y}{x}$ ?  
שרטט מפת קווי גובה.
- (2) מהו תחום ההגדרה של הפונקציה:  $f(x, y) = \ln x + \ln y$ ?  
שרטט מפת קווי גובה.
- (3) מהו תחום ההגדרה של הפונקציה:  $f(x, y) = x^2 + y^2$ ?  
שרטט מפת קווי גובה.
- (4) מהו תחום ההגדרה של הפונקציה:  $f(x, y) = \sqrt{1 - x^2 - y^2}$ ?  
שרטט מפת קווי גובה.
- (5) מהו תחום ההגדרה של הפונקציה:  $f(x, y) = \ln(x^2 - y)$ ?  
שרטט מפת קווי גובה.
- (6) מהו תחום ההגדרה של הפונקציה:  $f(x, y) = x\sqrt{y}$ ?  
שרטט מפת קווי גובה.
- (7) תהי:  $u(x, y) = (x+p)(y+q)$ ,  $x \geq 0$ ,  $y \geq 0$  פונקציית תועלת של פרט.  
הנקודות:  $(0, 14)$ ,  $(3, 2)$ ,  $(1, 6)$  מונחות על אותה עקומת אדישות.  
א. מצא את  $p$  ו- $q$ . הצב אותם בפונקציית התועלת.  
ב. מהי משוואת עקומת האדישות עליה מונחות הנקודות הנתונות?  
עליך להגיע למשוואה מפורשת. שרטט את עקומת האדישות.
- (8) שרטט לפונקציה:  $f(x, y) = \begin{cases} x^2 + 3x - y - 3 & x^2 \geq y \\ -x^2 + 3x + y - 3 & x^2 < y \end{cases}$   
את קו הגובה:  $f(x, y) = 1$

$$(9) \text{ נגדיר: } f(x, y) = \begin{cases} 3x + y & y > x \\ 4x & y \leq x \end{cases} \text{ הנח כי: } x, y \geq 0$$

שרטט את העקומות שוות הערך:  $f(x, y) = 4, 12$  עבור הפונקציה הנתונה.

$$(10) \text{ שרטט את מפת העקומות שוות הערך של: } f: R_+^2 \rightarrow R_+, f(x, y) = \min\left\{\frac{x}{3}, y\right\}$$

$$(11) \text{ שרטט עקומות שוות ערך לפונקציה: } f(x, y) = \min\{3x, y\}$$

$$(12) \text{ שרטט לפונקציה: } f(x, y) = \min\{y - x^2, x + y\}$$

$$\text{את קווי הגובה: } f(x, y) = 2, f(x, y) = 0$$

$$(13) \text{ נתונה הפונקציה: } f(x, y) = \begin{cases} x^2 - y & x \leq 1 \\ 2x + y & x > 1 \end{cases}$$

$$\text{א. שרטט את קו הגובה: } f(x, y) = 0$$

ב. לאילו ערכי  $C$  קו הגובה:  $f(x, y) = C$  יהיה קו רציף?  
צייר את קו הגובה במקרה זה.

(14) פונקציית התועלת של פרט הצורך את המוצרים  $x$  ו- $y$

$$u(x, y) = \begin{cases} y - x^2 + 4x & x \leq 4 \\ x - y & 4 < x \leq 6 \\ y - \ln x & 6 < x \end{cases} \text{ היא:}$$

$$\text{א. שרטט את קו הגובה: } u(x, y) = 3$$

ב. הסבר מהי המשמעות הכלכלית של קו הגובה שמצאת.

ג. ידוע כי הפרט צורך את הכמויות (4,8).

האם הפרט יהיה אדיש במעבר לצריכת הכמויות (7,9)?

$$(15) \text{ שרטט את מפת העקומות שוות הערך של: } f: R^2 \rightarrow R, f(x, y) = 100 - 5x - 2y$$

באיזה כיוון עליך לזוז מעקומה לעקומה על מנת להגדיל את הערך של  $f$ ?

**(16)** שרטט עקומות שוות ערך לפונקציה :  $f(x, y) = 3x - y + 3$

**(17)** שרטט עקומות שוות ערך לפונקציה :  $f(x, y) = x^3 - y$

**(18)** שרטט עקומות שוות ערך לפונקציה :  $f(x, y) = (x-1)^2 + (y+3)^2$

**(19)** שרטט עקומות שוות ערך לפונקציה :  $f(x, y) = e^{x-y}$

**(20)** שרטט עקומות שוות ערך לפונקציה :  $f(x, y) = 2 \ln x + \ln y$

**(21)** שרטט לפונקציה :  $f(x, y) = (x-y)^2$

את קווי הגובה :  $f(x, y) = 0$  ,  $f(x, y) = 4$

## תשובות סופיות

- (1)  $x \neq 0$ , המישור ללא ציר ה- $y$ .
- (2)  $x > 0, y > 0$ , הרביע הראשון ללא הצירים.
- (3) כל המישור.
- (4)  $x^2 + y^2 \leq 1$ , עיגול היחידה.
- (5)  $y < x^2$
- (6)  $y \geq 0$ , חצי המישור העליון.
- (7) א.  $u(x, y) = (x+1) \cdot (y+2)$ ,  $p=1, q=2$  ב.  $y = \frac{16}{x+1} - 2$
- (8) ראה סרטון.
- (9) ראה סרטון.
- (10) ראה סרטון.
- (11) ראה סרטון.
- (12) ראה סרטון.
- (13) א. ראה סרטון. ב.  $C=1.5$
- (14) א. ראה סרטון. ב. ראה סרטון. ג. הפרט לא אדיש.
- (15) ראה סרטון.
- (16) ראה סרטון.
- (17) ראה סרטון.
- (18) ראה סרטון.
- (19) ראה סרטון.
- (20) ראה סרטון.
- (21) ראה סרטון.

## פונקציות של שני משתנים – נגזרות חלקיות

### שאלות

(1) נתונה הפונקציה:  $f(x, y) = 4x^3 - 3x^2y^2 + 2x + 3y$ .  
 חשב את הנגזרת לפי  $x$  ואת הנגזרת לפי  $y$ .

(2) נתונה הפונקציה:  $f(x, y) = x^5 \cdot \ln y$ .  
 חשב את הנגזרת לפי  $x$  ואת הנגזרת לפי  $y$ .

(3) נתונה הפונקציה:  $f(x, y) = \frac{x^2 y^4 (\sqrt{y} + 5 \ln y)}{y^2 + 5y + y^y}$ .  
 חשב את הנגזרת לפי  $x$ .

(4) נתונה הפונקציה:  $f(x, y) = (x^2 + y^3) \cdot (2x + 3y)$ .  
 חשב את הנגזרת לפי  $x$  ואת הנגזרת לפי  $y$ .

(5) נתונה הפונקציה:  $f(x, y) = \frac{x^2 - 3y}{x + y^2}$ .  
 חשב את הנגזרת החלקית לפי  $x$  ואת הנגזרת לפי  $y$ .

(6) חשב את כל הנגזרות החלקיות עד סדר שני עבור:  $f(x, y) = x^3 + y^3 - 6xy$ .

(7) חשב את כל הנגזרות החלקיות עד סדר שני עבור:  
 $f(x, y) = x^3 + y^3 + 3(1 - y)(x - y)$

(8) חשב את כל הנגזרות החלקיות עד סדר שני עבור:  $f(x, y) = xy(x - y)$ .

(9) חשב את כל הנגזרות החלקיות עד סדר שני עבור:  
 $f(x, y) = (x - 9)(2y - 6)(4x - 3y + 12)$

(10) חשב את כל הנגזרות החלקיות עד סדר שני עבור:  $f(x, y) = e^{-xy}(x + y)$ .

(11) חשב את כל הנגזרות החלקיות עד סדר שני עבור:  $f(x, y) = e^{x+y}(x^2 + y^2)$

(12) חשב את כל הנגזרות החלקיות עד סדר שני עבור:  $f(x, y) = (x^2 + 2y^2)e^{-(x^2+y^2)}$

(13) חשב את כל הנגזרות החלקיות עד סדר שני עבור:  $f(x, y) = \ln(1 + x^2 + y^2)$

(14) חשב את כל הנגזרות החלקיות עד סדר שני עבור:  $f(x, y) = \ln(x^2 + y^2)$

(15) חשב את כל הנגזרות החלקיות עד סדר שני עבור:  $f(x, y) = \ln(\sqrt[3]{x^2 + y^2})$

(16) חשב:  $f'_{xy}(1,1)$  עבור:  $f(x, y) = \ln(xy - x^2 - y^2)$

(17) חשב:  $f'_{xy}(1,1)$  עבור:  $f(x, y) = \ln(x^2 + y^2)$

(18) חשב:  $f'_{xy}(1,1)$  עבור:  $f(x, y) = \sqrt{x^2 + y^2}$

(19) נתון:  $z(x, y) = \ln(\sqrt{x} + \sqrt{y})$

הוכח כי:  $x \cdot \frac{\partial z}{\partial x} + y \cdot \frac{\partial z}{\partial y} = \frac{1}{2}$

(20) נתון:  $f(x, y, z) = e^x \cdot \left(y^2 - \frac{1}{z}\right)$

חשב:  $\frac{\partial f}{\partial x}\left(0, -1, \frac{1}{2}\right), \frac{\partial f}{\partial y}\left(0, -1, \frac{1}{2}\right), \frac{\partial f}{\partial z}\left(0, -1, \frac{1}{2}\right)$

(21) נתון:  $f(x, y) = \frac{x^2}{\ln y + x}$

חשב:  $\frac{\partial^2 f}{\partial x^2}(1, e), \frac{\partial^2 f}{\partial y^2}(1, e), \frac{\partial^2 f}{\partial x \partial y}(1, e)$

**(22)** חשב את כל הנגזרות החלקיות עד סדר שני עבור :

$$f(x, y) = 4x^2 - x^2y^2 + 4x + 10y$$

**(23)** חשב את כל הנגזרות החלקיות עד סדר שני עבור :  $f(x, y) = x^4 \cdot \ln y$

**(24)** חשב את כל הנגזרות החלקיות עד סדר שני עבור :  $f(x, y, z) = xyz$

## תשובות סופיות

$$f_y(x, y) = -6x^2y + 3, \quad f_x(x, y) = 12x^2 - 6xy^2 + 2 \quad (1)$$

$$f_y(x, y) = \frac{x^5}{y}, \quad f_x(x, y) = 5x^4 \ln y \quad (2)$$

$$f_x(x, y) = \frac{y^4(\sqrt{y} + 5 \ln y)}{y^2 + 5y + y^y} \cdot 2x \quad (3)$$

$$f_y(x, y) = (2x + 3y) + 3(x^2 + y^2), \quad f_x(x, y) = 2x(2x + 3y) + 2(x^2 + y^3) \quad (4)$$

$$f_y(x, y) = \frac{-3x - 3y^2 - 2x^2y + 6y^2}{(x + y^2)^2}, \quad f_x(x, y) = \frac{2x(x + y^2) - 1(x^2 - 3y)}{(x + y^2)^2} \quad (5)$$

סדר ראשון: (6)

$$f_y(x, y) = 3y^2 - 6x, \quad f_x(x, y) = 3x^2 - 6y$$

סדר שני:

$$f_{yx} = -6, \quad f_{xy} = 0 - 6, \quad f_{yy} = 6y - 0, \quad f_{xx} = 6x - 0$$

סדר ראשון: (7)

$$f_y(x, y) = 3y^2 + 3 - 3x - 6y, \quad f_x(x, y) = 3x^2 + 3 - 3y$$

סדר שני:

$$f_{xy} = f_{yx} = -3, \quad f_{yy} = 6y - 6, \quad f_{xx} = 6x$$

סדר ראשון: (8)

$$f_y(x, y) = x^2 - 2xy, \quad f_x(x, y) = 2xy - y^2$$

סדר שני:

$$f_{xy} = f_{yx} = 2x - 2y, \quad f_{yy} = -2x, \quad f_{xx} = 2y$$

סדר ראשון: (9)

$$f_x(x, y) = 2[8xy - 3y^2 \cdot 1 - 24x - 0 + 57y \cdot 1 + 72 + 0 + 0]$$

$$f_y(x, y) = 2[4x^2 \cdot 1 - 3x \cdot 2y - 0 - 54y + 57x \cdot 1 + 0 + 27 + 0]$$

סדר שני:

$$f_{yy} = 2[0 - 6x \cdot 1 - 54 + 0 + 0], \quad f_{xx} = 2[8y - 0 - 24]$$

$$f_{xy} = f_{yx} = 2[8x \cdot 1 - 6y - 0 + 57 + 0]$$

סדר ראשון: (10)

$$f_y(x, y) = e^{xy}(x^2 + xy + 1), \quad f_x(x, y) = e^{xy}(xy + y^2 + 1)$$

סדר שני:

$$f_{yy} = e^{xy} \cdot x \cdot (x^2 + xy + 1) + (0 + x) \cdot e^{xy}, \quad f_{xx} = e^{xy} \cdot y \cdot (xy + y^2 + 1) + (y + 0 + 0) \cdot e^{xy}$$

$$f_{xy} = f_{yx} = e^{xy} \cdot x \cdot (xy + y^2 + 1) + (x + 2y) \cdot e^{xy}$$

**(11) סדר ראשון :**

$$f_y(x, y) = e^{x+y} (x^2 + y^2 + 2y), \quad f_x(x, y) = e^{x+y} (x^2 + y^2 + 2x)$$

**סדר שני :**

$$, f_{yy} = e^{x+y} \cdot (x^2 + y^2 + 2y) + (2y + 2) \cdot e^{x+y}, \quad f_{xx} = e^{x+y} \cdot (x^2 + y^2 + 2x) + (2x + 2) \cdot e^{x+y}$$

$$f_{xy} = f_{yx} = e^{x+y} \cdot (x^2 + y^2 + 2x) + 2y \cdot e^{x+y}$$

**(12) סדר ראשון :**

$$f_y(x, y) = e^{-x^2-y^2} (4y - 2x^2y - 4y^3), \quad f_x(x, y) = e^{-x^2-y^2} (2x - 2x^3 - 4xy^2)$$

**סדר שני :**

$$, f_{xx} = e^{-x^2-y^2} (-2x) \cdot (2x - 2x^3 - 4xy^2) + (2 - 6x^2 - 4y^2) \cdot e^{-x^2-y^2}$$

$$, f_{yy} = e^{-x^2-y^2} (-2y) \cdot (4y - 2x^2y - 4y^3) + (4 - 2x^2 - 12y^2) \cdot e^{-x^2-y^2}$$

$$f_{xy} = f_{yx} = e^{-x^2-y^2} (-2y) \cdot (2x - 2x^3 - 4xy^2) + (-4x \cdot 2y) \cdot e^{-x^2-y^2}$$

**(13) סדר ראשון :**

$$f_y(x, y) = \frac{2y}{1+x^2+y^2}, \quad f_x(x, y) = \frac{2x}{1+x^2+y^2}$$

**סדר שני :**

$$, f_{yy} = \frac{2 \cdot (1+x^2+y^2) - 2y \cdot 2y}{(1+x^2+y^2)^2}, \quad f_{xx} = \frac{2x(1+x^2+y^2) + 2x \cdot 2x}{(1+x^2+y^2)^2}$$

$$f_{xy} = f_{yx} = \frac{0 \cdot (1+x^2+y^2) - 2y \cdot 2x}{(1+x^2+y^2)^2}$$

**(14) סדר ראשון :**

$$f_y(x, y) = \frac{2y}{x^2+y^2}, \quad f_x(x, y) = \frac{2x}{x^2+y^2}$$

**סדר שני :**

$$, f_{yy} = \frac{2(x^2+y^2) - 2y \cdot 2y}{(x^2+y^2)^2}, \quad f_{xx} = \frac{2(x^2+y^2) - 2x \cdot 2x}{(x^2+y^2)^2}$$

$$f_{xy} = f_{yx} = \frac{0(x^2+y^2) - 2y \cdot 2x}{(x^2+y^2)^2}$$

**(15) ראה סרטון.**

$$f_{xy}(1,1) = -2 \quad \mathbf{(16)}$$

$$f_{xy}(1,1) = 1 \quad \mathbf{(17)}$$

$$f_{xy}(1,1) = \frac{-1}{2\sqrt{2}} \quad \mathbf{(18)}$$

**(19) הוכחה.**

$$f_z = 4, f_y = -2, f_x = -1 \quad (20)$$

$$f_{xy} = f_{yx} = -\frac{1}{4e}, f_{yy} = \frac{4}{e^2} \left(1 + \frac{1}{e}\right), f_{xx} = \frac{1}{4} \quad (21)$$

סדר ראשון: (22)

$$f_y(x, y) = -2x^2y + 10, f_x(x, y) = 8x - 2xy^2 + 4$$

סדר שני:

$$f_{xy} = f_{yx} = -4xy, f_{yy} = -2x^2, f_{xx} = 8 - 2y^2$$

סדר ראשון: (23)

$$f_y(x, y) = x^4 \cdot \frac{1}{y}, f_x(x, y) = 4x^3 \ln y$$

סדר שני:

$$f_{xy} = f_{yx} = \frac{4x^3}{y}, f_{yy} = -\frac{x^4}{y^2}, f_{xx} = 12x^2 \ln y$$

סדר ראשון: (24)

$$f_z(x, y, z) = xy \cdot 1, f_y(x, y) = xz \cdot 1, f_x(x, y, z) = yz \cdot 1$$

סדר שני:

$$f_{yz} = x \cdot 1, f_{xz} = y \cdot 1, f_{xy} = f_{yx} = z \cdot 1, f_{zz} = 0, f_{yy} = 0, f_{xx} = 0$$

# מתמטיקה לחשבונאים ב

פרק 2 - כלל השרשרת בפונקציות של מספר משתנים

תוכן העניינים

1. כלל השרשרת בפונקציות של מספר משתנים ..... 11

## כלל השרשרת בפונקציות של מספר משתנים

בתרגילים בפרק זה, הניחו שכל הנגזרות הרשומות קיימות.

### שאלות

(1) נתון:  $x = 2u - v$ ,  $y = u^2 + v^2$ ,  $z = \ln(x^2 - y^2)$   
 חשבו:  $z_u$ ,  $z_v$ .

(2) נתון:  $v = 4t + k$ ,  $u = t^2 + 4m$ ,  $z = e^{u-v}$   
 חשבו:  $z_t$ ,  $z_m$ ,  $z_k$ .

(3) נתון:  $z = f(x^2 - y^2)$   
 הוכיחו:  $y \cdot z_x + x \cdot z_y = 0$

(4) נתון:  $z = f(xy)$   
 הוכיחו:  $x \cdot z_x - y \cdot z_y = 0$

(5) נתון:  $z = f\left(\frac{x}{y}\right)$   
 הוכיחו:  $x \cdot z_x + y \cdot z_y = 0$

(6) נתון:  $z = f(x - y, y - x)$   
 הוכיחו:  $z_x + z_y = 0$

(7) נתון:  $w = f(x - y, y - z, z - x)$   
 הוכיחו:  $w_x + w_y + w_z = 0$

(8) נתון:  $u = \sin x + f(\sin y - \sin x)$   
 הוכיחו:  $u_x \cos y + u_y \cos x = \cos x \cos y$

$$(9) \text{ נתון: } z = y \cdot f(x^2 - y^2)$$

$$\text{הוכיחו: } \frac{1}{x} z_x + \frac{1}{y} z_y = \frac{z}{y^2}$$

$$(10) \text{ נתון: } z = xy + xf\left(\frac{y}{x}\right)$$

$$\text{הוכיחו: } x \cdot z_x + y \cdot z_y = xy + z$$

$$(11) \text{ נתון: } u(x, y, z) = x^2 \cdot f\left(\frac{y}{x}, \frac{z}{x}\right)$$

$$\text{הוכיחו: } xu_x + yu_y + zu_z = 2u$$

$$(12) \text{ נתון: } h(x, y) = f(y + ax) + g(y - ax)$$

$$\text{הוכיחו: } h_{xx} = a^2 \cdot h_{yy}$$

$$(13) \text{ נתון: } u(x, y) = f(e^x \sin y) - g(e^x \sin y)$$

הוכיחו:

$$א. \quad u_{xx} + u_{yy} = \frac{u_{xx} - u_x}{\sin^2 y}$$

$$ב. \quad u_{xy} = u_{yx}$$

$$ג. \quad \text{חשבו את } u_{xy}(1, \pi) \text{, אם ידוע ש-} g'(0) = 1, f'(0) = 2$$

$$(14) \text{ נתון: } y = r \sin \theta, x = r \cos \theta, u = f(x, y)$$

$$א. \text{ הוכיחו: } (u_x)^2 + (u_y)^2 = (u_r)^2 + \frac{1}{r^2} (u_\theta)^2$$

$$ב. \text{ הוכיחו: } u_{rr} = f_{xx} \cos^2 \theta + 2f_{xy} \cos \theta \sin \theta + f_{yy} \sin^2 \theta$$

$$ג. \text{ הוכיחו: } f_{xx} + f_{yy} = u_{rr} + \frac{1}{r^2} u_{\theta\theta} + \frac{1}{r} u_r$$

**15** נתון  $z = h(u, v)$ , ונתון כי  $u = f(x, y)$ ,  $v = g(x, y)$  מקיימות את משוואת קושי-רימן, כלומר מקיימות  $u_x = v_y$ ,  $u_y = -v_x$ . הוכיחו כי:

א.  $u, v$  מקיימות את משוואת לפלס.

כלומר,  $u_{xx} + u_{yy} = 0$  וכן  $v_{xx} + v_{yy} = 0$ .

ב.  $h_{xx} + h_{yy} = \left( (u_x)^2 + (v_x)^2 \right) (h_{uu} + h_{vv})$ .

**16** נתון:  $y = r \sinh s$ ,  $x = r \cosh s$ ,  $u = f(x, y)$ .

הוכיחו כי:  $(u_x)^2 - (u_y)^2 = (u_r)^2 - \frac{1}{r^2} (u_s)^2$ .

**17** פונקציה  $f(x, y)$  תיקרא הומוגנית מסדר  $n$ , אם  $f(tx, ty) = t^n \cdot f(x, y)$ . הוכיחו כי אם  $f$  הומוגנית, אז:

א.  $x \cdot f_x + y \cdot f_y = n \cdot f(x, y)$ .

ב.  $x^2 f_{xx} + y^2 f_{yy} + 2xy f_{xy} = n(n-1) \cdot f(x, y)$ .

**18** נתונה הפונקציה  $z = f(x, y) = \begin{cases} \frac{x^2 y}{x^2 + y^2} & (x, y) \neq (0, 0) \\ 0 & (x, y) = (0, 0) \end{cases}$

א. חשבו את הנגזרות החלקיות של הפונקציה בנקודה  $(0, 0)$ .

ב. נתון  $x = 2t, y = t$ .

חשבו את  $z'(0)$  באופן ישיר.

ג. נתון  $x = 2t, y = t$ .

חשבו את  $z'(0)$  לפי כלל השרשרת.

ד. בעזרת תוצאת סעיף ג' בלבד, קבעו האם הפונקציה דיפרנציאבילית.

### תשובות סופיות

$$z_u = \frac{1}{x^2 - y^2} \cdot 2x \cdot 2 + \frac{1}{x^2 - y^2} (-2y) \cdot 2u \quad (1)$$

$$z_t = e^{u-v} (1) \cdot 2t + e^{u-v} (-1) \cdot 4, \quad z_m = e^{u-1} (1) \cdot 4, \quad z_k = e^{u-v} (-1) \cdot 1 \quad (2)$$

$$-e \quad \text{ג.} \quad (13)$$

$$f_x(0,0) = f_y(0,0) = 0 \quad \text{א.} \quad (18) \quad \text{ב.} \quad \frac{4}{5} \quad \text{ג.} \quad 0 \quad \text{ד.} \quad \text{לא דיפרנציאבילית.}$$

שאר השאלות הן שאלות הוכחה, לפתרונות מלאים היכנסו לאתר [GooL.co.il](http://GooL.co.il)

# מתמטיקה לחשבונאים ב

פרק 3 - פונקציות סתומות - שימושים גיאומטריים

תוכן העניינים

- 15 ..... 1. פונקציות סתומות - הפן הטכני
- 18 ..... 2. שימושים גיאומטריים.

## פונקציות סתומות – הפן הטכני

### שאלות

- (1) מצאו את  $y'$ , כאשר  $x^2 + y^5 = xy + 1$ , וחשבו את  $y'(0)$ .
- (2) מצאו את  $y'(1)$ , כאשר  $e^{xy} + x^2y^2 = 5x - 4$ .
- (3) מצאו את  $y'(e)$ ,  $y''(e)$ , כאשר  $2\ln x + \ln y = 1$ .
- (4) נתון  $(z = z(x, y) \geq 0)$   $z^2 - e^{x^2+y^2} + (x+y)\sin z = 0$   
 חשבו את  $\frac{\partial z}{\partial x}(0,0)$ ,  $\frac{\partial z}{\partial y}(0,0)$ .
- (5) נתון  $(y = y(x, z) \geq 0)$   $z^2 - e^{x^2+y^2} + (x+y)\sin z = -e^4$   
 חשבו את  $y_x(0,0)$ ,  $y_z(0,0)$ .
- (6) נתונה המשוואה  $x - y = x \cdot y \cdot f\left(\frac{1}{x} - \frac{1}{z}\right)$   
 הוכיחו כי  $x^2 \cdot z_x + y^2 \cdot z_y = z^2$ .
- (7) נתון  $(z = z(x, y) \geq 0)$   $z^3 - 2xz + y = 0$   
 מצאו  $z_{xx}(1,1)$ .
- (8) נתונה משוואה  $z^3 - 3xyz = 4$  ונקודה  $(2,1,-2)$ . מצאו את:  
 א.  $z_{xx}(2,1)$   
 ב.  $z_{xy}(2,1)$   
 ג.  $z_{yy}(2,1)$

$$(9) \quad \begin{cases} u^2 - v = 3x + y \\ u - 2v^2 = x - 2y \end{cases} \quad \text{נתונה מערכת משוואות:}$$

א. חשבו את  $u_x, v_x, u_y, v_y$ .

ב. הראו כי  $u_{xy} = u_{yx}$ .

\*הערה: בסעיף ב' אין להסתמך על משפט הנגזרות המעורבות.

$$(10) \quad \begin{cases} x = u + v \\ y = u^2 + v^2 \\ w = u^3 + v^3 \end{cases} \quad \text{נתונה מערכת משוואות:}$$

א. חשבו את  $w_x, w_y$ .

ב. חשבו  $y_x, y_w$ .

$$(11) \quad \begin{cases} xyz = 4 \\ x + y + z = 4 \end{cases} \quad \text{נתונה מערכת משוואות:}$$

הוכיחו כי  $z''(x) + y''(x) = 0$ .

$$(12) \quad \begin{cases} x \cos u + y \sin u + \ln z = f(u) \\ -x \sin u + y \cos u = f'(u) \end{cases} \quad \text{נתונה המערכת:}$$

הוכיחו כי:

$$א. \quad (z_x)^2 + (z_y)^2 = z^2$$

$$ב. \quad z_{xy} = z_{yx}$$

\*הערה: בסעיף ב' אין להסתמך על משפט הנגזרות המעורבות.

### תשובות סופיות

$$y'(0) = \frac{1}{5} \quad (1)$$

$$y'(1) = 5 \quad (2)$$

$$y'(e) = -\frac{2}{e^2}, y''(e) = \frac{6}{e^3} \quad (3)$$

$$z_x(0,0) = z_y(0,0) = -\frac{\sin 1}{2} \quad (4)$$

$$y_x(0,0) = 0, y_z(0,0) = \frac{1}{2e^4} \quad (5)$$

שאלת הוכחה. (6)

$$z_x(1,1) = -16 \quad (7)$$

$$z_{xx}(2,1) = z_{xy}(2,1) = 1, z_{yy}(2,1) = 4 \quad (8)$$

$$u_x = \frac{12v-1}{8uv-1}, u_y = \frac{4v+2}{8uv-1}, v_x = \frac{3-2u}{8uv-1}, v_y = \frac{4u+1}{8uv-1} \quad \left( uv \neq \frac{1}{8} \right). \text{א.} \quad (9)$$

ב. שאלת הוכחה.

$$\frac{\partial w}{\partial x} = -3uv, \frac{\partial w}{\partial y} = \frac{3}{2}(v+u) \quad (u \neq v). \text{א.} \quad (10)$$

$$\frac{\partial y}{\partial x} = -\frac{2uv}{v+u}, \frac{\partial y}{\partial w} = \frac{2}{3(v+u)} \quad (u \neq \pm v). \text{ב.}$$

שאלת הוכחה. (11)

שאלת הוכחה. (12)

## שימושים גאומטריים

### שאלות

- (1) נתון משטח המוגדר ע"י הפונקציה  $\frac{x^2}{4} + y^2 + \frac{z^2}{9} = 3$  ( $z < 0$ ).  
מהי משוואת מישור משיק למשטח בנקודה P, בה  $x = -2, y = 1$ ?
- (2) מצאו משוואה של מישור משיק למשטח  $xyz = 8$  בנקודה  $(-2, 2, -2)$ ,  
וכן משוואה של הישר הפרמטרי הניצב למשטח הנתון בנקודה זו.
- (3) מצאו מישור המשיק למשטח  $x^2 + 8y^2 = 21 - 27z^2$ ,  
המקביל למישור  $x + 8y + 18z = 0$ .
- (4) למשטח  $\sqrt{x} + \sqrt{y} + \sqrt{z} = \sqrt{a}$  העבירו מישור המשיק בנקודה כלשהי.  
מישור זה חותך את הצירים  $x, y, z$  בנקודות A, B, C, בהתאמה.  
נסמן:  $O = (0, 0, 0)$ .  
הוכיחו  $OA + OB + OC = a$ .  
(למעשה נוכיח שסכום הקטעים אינו תלוי בנקודת ההשקה)
- (5) נתון המשטח  $x^2yz + 3y^2 = 2xz^2 - 8z$ , ונתונה הנקודה  $(1, 2, -1)$ .  
הישר הנורמלי למשטח בנקודה הנתונה, חותך את המישור  $x + 3y - 2z = 10$ ,  
בנקודה Q.  
מצאו את הנקודה Q.
- (6) הראו שהמשטח  $x^2 - 2yz + y^3 = 4$  מאונך לכל אחד מחברי משפחת  
המשטחים  $x^2 + 1 = (2 - 4a)y^2 + az^2$ , בנקודת החיתוך  $(1, -1, 2)$ .
- (7) מצאו משוואת הישר המשיק לעקום  $C: x = 6\sin t, y = 4\cos 3t, z = 2\sin 5t$ ,  
בנקודה בה  $t = \frac{1}{4}\pi$ .

(8) ענו על הסעיפים הבאים:

א. נתון עקום  $C: x = x(t), y = y(t), z = z(t)$ ,

ונתונה נקודה  $P(x_0, y_0, z_0)$ , המתקבלת מהצבת  $t = t_0$  במשוואת העקום. הוכיחו כי משוואת המישור הנורמל לעקום היא

$$x'(t_0) \cdot (x - x_0) + y'(t_0) \cdot (y - y_0) + z'(t_0) \cdot (z - z_0) = 0$$

ב. מצאו את משוואת המישור הנורמל לעקום

$$C: x = 6 \sin t, y = 4 \cos 3t, z = 2 \sin 5t$$

בנקודה בה  $t = 0.25\pi$ .

(9) נתונות שתי עקומות  
 $C_1: x = 2t + 1, y = t^2 - 1, z = t^2 + t$   
 $C_2: x = s^2, y = -s, z = s - 1$

ונתון כי שתי העקומות נמצאות על משטח  $S$ , וכי שתיהן נחתכות בנקודה הנמצאת במישור  $xy$ .

א. מצאו את נקודת החיתוך בין שתי העקומות.

ב. מצאו את משוואת המישור המשיק לשתי העקומות בנקודת החיתוך שבין שתי העקומות.

(10) נתונות שלוש עקומות  
 $C_1: x = 2t + 1, y = t^2 - 1, z = t^2 + t$   
 $C_2: x = s^2, y = -s, z = s - 1$   
 $C_3: x = u + 2, y = u, z = u^2 - 1$

ונתון כי שלוש העקומות נמצאות על משטח  $S$ , וכי שלושתן נחתכות בנקודה הנמצאת במישור  $xy$ .

א. מצאו את נקודת החיתוך בין שתי העקומות.

ב. האם בנקודה הנ"ל ניתן להעביר מישור משיק למשטח  $S$ ? נמקו!

(11) ענו על הסעיפים הבאים:

א. הוכיחו שמשוואת הישר המשיק לעקום:  
 $\begin{cases} F(x, y, z) = 0 \\ G(x, y, z) = 0 \end{cases}$

בנקודה  $P$  שעליו, היא  $\ell: P + t \cdot \nabla F(P) \times \nabla G(P)$

ב. בנקודה  $(1, -1, 1)$ , מצאו את משוואת הישר המשיק לעקום:

$$\begin{cases} 2xz - x^2y = 3 \\ 3x^2y + y^2z = -2 \end{cases}$$

12) ענו על הסעיפים הבאים:

א. הוכיחו שמשוואת המישור הנורמלי לעקום

$$\begin{cases} F(x, y, z) = 0 \\ G(x, y, z) = 0 \end{cases}$$

בנקודה P שעליו, היא  $a(x - x_0) + b(y - y_0) + c(z - z_0) = 0$ ,

כאשר  $(a, b, c) = \nabla F(P) \times \nabla G(P)$ .

ב. בנקודה  $(1, -1, 1)$ , מצאו את משוואת המישור הנורמלי לעקום:

$$\begin{cases} 2xz - x^2y = 3 \\ 3x^2y + y^2z = -2 \end{cases}$$

13) נתונה הפונקציה  $r: \mathbb{R}^2 \rightarrow \mathbb{R}^3$ , על ידי  $x = u \cos v$ ,  $y = u \sin v$ ,  $z = u^2 + v^2$ .

מהן הנקודות שעבורן קיים מישור משיק?

מצאו את משוואת המישור המשיק, בנקודה  $(u, v) = (1, 0)$ .

14) מצאו ביטוי לוקטור היחידה, המאונך למשטח

$$x = \sin u \cos v, \quad y = \sin u \sin v, \quad z = \cos u$$

עבור  $u \in [0, \pi]$ ,  $v \in [0, 2\pi]$ .

באיזה משטח מדובר?

## תשובות סופיות

$$3x - 6y + 2z + 18 = 0 \quad (1)$$

$$x - y + z + 6 = 0, \quad (-2, 2, -2) + t(1, -1, 1) \quad (2)$$

$$x + 8y + 18z = 21, \quad x + 8y + 18z = -21 \quad (3)$$

שאלת הוכחה. (4)

$$Q(7, -9, -15) \quad (5)$$

שאלת הוכחה. (6)

$$\ell: (x, y, z) = (3\sqrt{2}, -2\sqrt{2}, -\sqrt{2}) + s(3\sqrt{2}, -6\sqrt{2}, -5\sqrt{2}) \quad (7)$$

$$3x - 6y - 5z = 26\sqrt{2} \quad \text{ב.} \quad \text{א. שאלת הוכחה.} \quad (8)$$

$$x - 2z = 1 \quad \text{ב.} \quad P(1, -1, 0) \quad \text{א.} \quad (9)$$

(10) א. נקבל שנקודת החיתוך היא  $P(1, -1, 0)$ . ב. לא.

$$(x, y, z) = (1, -1, 1) + t(3, 16, 2) \quad \text{ב.} \quad \text{א. שאלת הוכחה.} \quad (11)$$

$$3x + 16y + 2z = -11 \quad \text{ב.} \quad \text{א. שאלת הוכחה.} \quad (12)$$

$$-2x + z = -1 \quad \text{ב.} \quad (0, 0, 0) \quad \text{א. כל נקודה, למעט} \quad (13)$$

$$(14) \quad \hat{n} = \frac{\vec{n}}{|\vec{n}|} = \frac{(x, y, z)}{\sqrt{x^2 + y^2 + z^2}} \quad \text{כדור שמרכזו בראשית הצירים, עם רדיוס 1,}$$

$$\text{שנוסחתו: } x^2 + y^2 + z^2 = 1.$$

# מתמטיקה לחשבונאים ב

פרק 4 - פונקציות הומוגניות-משפט אוילר

תוכן העניינים

22	.....	1. פונקציות הומוגניות
25	.....	2. משפט אוילר

## פונקציות הומוגניות

### שאלות

בשאלות 1-3 בדקו האם הפונקציה הומוגנית ומאיזה סדר:

$$f(x, y) = x^3 \sqrt{y} + y^3 \sqrt{x} \quad (1)$$

$$h(x, y) = \frac{\ln(e^{5x})}{\sqrt[3]{ex^6 - 7y^6}} \quad (2)$$

$$f(x, y) = \ln(4^x) \cdot g\left[\frac{\sqrt{xy}}{x+7y}\right] \quad (3)$$

(4) נתון כי  $z(x, y)$  פונקציה הומוגנית מסדר 3.

בדקו האם הפונקציה  $f(x, y) = \frac{x}{y^4} + \frac{\sqrt{y}}{\sqrt{x^5}} + \frac{1}{z(x, y)} - 4$  הומוגנית.

במידה והפונקציה לא הומוגנית, השמיטו ממנה חלק, כך שתתקבל פונקציה הומוגנית.

מהו סדר ההומוגניות של הפונקציה במקרה זה?

(5) מצאו עבור איזה ערך של הפרמטר  $\alpha$ , כל אחת מהפונקציות הבאות הומוגניות. כמו כן, מצאו את סדר ההומוגניות עבור ה- $\alpha$  שנמצאה.

א.  $f(x, y) = \frac{x^4 y + xy^\alpha}{4x + 10y}$

ב.  $f(x, y) = \sqrt{\frac{y}{x}} (\ln \alpha x - \ln y)$

6) בתרגיל זה נדגים את התכונה הבאה של פונקציות הומוגניות :  
 אם פונקציה היא הומוגנית מסדר  $n$ , אז אם נחלק אותה ב-  $x^n$ ,

$$\text{נקבל פונקציה של } \frac{y}{x}.$$

א. הדגימו את הטענה על הפונקציות הבאות :

$$1. f(x, y) = x^2 - xy + 2y^2$$

$$2. f(x, y) = \sqrt{x+y}$$

ב. הוכיחו את הטענה לעיל.

### הערה

ניסוח פורמלי של הטענה לעיל הוא :

אם פונקציה היא הומוגנית מסדר  $n$ , אז קיימת פונקציה  $g(t)$ , כך ש-  $t = \frac{y}{x}$ ,

$$\text{המקיימת } \frac{f(x, y)}{x^n} = g(t)$$

7) תהינה  $f$  ו- $g$  פונקציות ב- $n$  משתנים, והומוגניות מסדר  $r_1$  ו- $r_2$ , בהתאמה. קבעו, לכל אחת מהפונקציות הבאות, אם היא הומוגנית ומאיזה דרגה :

א.  $f \cdot g$       ב.  $\frac{f}{g}$       ג.  $\frac{(f)^2}{\sqrt[n]{g}}$       ד.  $f + g$

8) נתון כי  $f$  פונקציה הומוגנית מסדר 4.

$$\text{ידוע כי } f(1, 2) = 4, f_x(1, 2) = 10$$

חשבו את  $f(2, 4), f(0.5, 1), f_x(2, 4), f_x(1.5, 3)$ .

9) נתונה פונקציה  $f(x, y) = x^4 + y^2 z(x, y)$ .

ידוע כי  $z$  פונקציה הומוגנית מסדר 2 וכי  $f(4, 10) = 1$ .

$$\text{א. חשבו את } f(2, 5)$$

$$\text{ב. ידוע כי } f_x(1, 1) = 4$$

חשבו את  $f_x(a, a)$ , לכל קבוע  $a$ .

## תשובות סופיות

- (1) הומוגנית מסדר 3.5
- (2) הומוגנית מסדר -1
- (3) הומוגנית מסדר 1
- (4) הפונקציה לא הומוגנית. על ידי השמטת חלקים מהפונקציה אפשר לקבל:
- $f(x, y) = \frac{x}{y^4} + \frac{1}{z(x, y)}$  הומוגנית מסדר -3
- $f(x, y) = \frac{\sqrt{y}}{\sqrt{x^5}}$  הומוגנית מסדר -2
- $f(x, y) = -4$  הומוגנית מסדר 0
- (5) א. עבור  $\alpha = 4$  הפונקציה הומוגנית מסדר 4. ב. הומוגנית מסדר 0 לכל  $\alpha > 0$ .
- (6) א.1.  $g(t) = 1 - t + 2t^2$  .2.  $g(t) = \sqrt{1+t}$  . ב. הוכחה.
- (7) א. הומוגנית מדרגה  $r_1 + r_2$  . ב. הומוגנית מדרגה  $r_1 - r_2$  . ג. הומוגנית מדרגה  $2r_1 - \frac{r_2}{n}$  . ד. הומוגנית מדרגה  $r_1$  רק אם  $r_1 = r_2$  . אחרת לא הומוגנית.
- (8)  $f_x(2, 4) = 80, f_x(1.5, 3) = 33.75, f(2, 4) = 64, f(0.5, 1) = \frac{1}{4}$
- (9) א.  $f(2, 5) = \frac{1}{16}$  . ב.  $f_x(a, a) = 4a^3$

## משפט אוילר

### שאלות

(1) נתונה הפונקציה  $f(x, y) = x^2 - xy + 2y^2$ .

- א. הוכיחו שהפונקציה הומוגנית ומצאו את דרגתה.  
 ב. הראו שמשפט אוילר מתקיים.

(2) ענו על הסעיפים הבאים:

א. נניח ש-  $f = f(x, y)$  הומוגנית מסדר 0.

הוכיחו כי  $\frac{f_x}{f_y} = -\frac{y}{x}$ .

ב. נתון כי  $f(x, y) = \frac{e^{\frac{x}{y}}(x+y)}{(x-y)(\ln x - \ln y)}$ .

הוכיחו כי  $x \cdot f_x = -y \cdot f_y$ .

(3) ענו על הסעיפים הבאים:

א. הוכיחו כי פונקציית התועלת  $u(x, y) = \left(\frac{1}{2}x^m + \frac{1}{2}y^m\right)^{1/m}$  הומוגנית.

הניחו כי  $m$  קבוע חיובי.

ב. הוכיחו, ללא חישוב ישיר של הנגזרות, כי  $u_y(a, a) = u_y(1, 1)$ .

ג. הוכיחו, ללא חישוב ישיר של הנגזרות, כי  $u_x(2, 2) + u_y(1, 1) = 1$ .

(4) תהי  $f$  פונקציה הומוגנית מסדר 2,

ונגדיר  $h(x, y) = x^2 - y^2 + f\left(\frac{x^2}{y}, \frac{y^2}{x}\right)$ .

א. הוכיחו כי  $h$  הומוגנית מסדר 2.

ב. נתון:  $f(8, 1) = 16$ ,  $h'_x(6, 3) = 9$ .

מצאו את  $h(2, 1)$  ואת  $h'_y(2, 1)$ .

(5)  $g$  ו- $h$  הינן פונקציות הומוגניות מסדר 2 ו-10, בהתאמה. נגדיר:

$$f(x, y) = (x + y)h(x, y) + \frac{\sqrt{g(x, y)}}{x^2 + y^2}$$

א. הוכיחו כי  $f$  הומוגנית מסדר 3.

ב. נתון:  $f'_y(1, 8) = 3$ ,  $h(4, 32) = 16$ ,  $f'_x(2, 16) = 12$ ,

מצאו את  $f(1, 8)$  ואת  $g(1, 8)$ .

(6)  $f$  הומוגנית מסדר 4,  $g$  הומוגנית מסדר 2 ו- $h$  הומוגנית מסדר 0.

נגדיר פונקציה  $p(x, y) = f(x, y) + g(x, y) - h(x, y)$ .

נתון:  $f'_x(2, 4) = 64$ ,  $f'_y(-1, -2) = -4$ ,  $h\left(\frac{1}{2}, 1\right) = \frac{5}{2}$ ,  $p(1, 2) = \frac{7}{2}$

חשבו את  $g\left(\frac{1}{2}, 1\right)$ .

(7) הפונקציה  $f(x, y)$  הומוגנית מסדר 3. הנתונים בשרטוט.

א. מצאו את שיעורי הנקודה B.

ב. מצאו את ערך הסכום  $f'_x(4, 8) + 2f'_y(4, 8)$ .

ג. נגדיר פונקציה חדשה  $u(x, y)$ ,

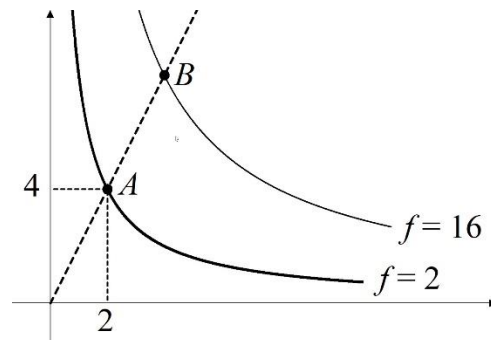
$$u(x, y) = (f(x, y))^2$$

1. לפי כללי הגזירה, מתקיים  $u_x(x, y) = 2 \cdot f(x, y) \cdot f'_x(x, y)$ .

הסבירו זאת בקצרה.

2. הוכיחו כי  $x \cdot u_x(x, y) + y \cdot u_y(x, y) = 6(f(x, y))^2$ .

היעזרו בסעיף הקודם ובנתונים על  $f$ .



8) תהי  $f(x, y)$  פונקציה הומוגנית מסדר  $m$ ,

$$f(2,1) = 27 \text{ ו- } f(6,3) = 243.$$

א. מצאו את סדר ההומוגניות,  $m$ .

ב. בנקודה  $(2,1)$  עוברת עש״ע של  $f$ .

העבירו משיק לעש״ע בנקודה הנ״ל.

$$\text{המשיק הוא } 2x + 3y = 7.$$

מצאו את  $f_x(2,1)$ ,  $f_y(2,1)$ ,  $f_x(1,0.5)$ .

9) תהי  $g(t)$  פונקציה של משתנה אחד.

$$\text{על הפונקציה } g \text{ ידוע, כי } g'(8) = 2, g(1) = 3, g(4) = 5.$$

המשתנה  $t$  תלוי במשתנים החיוביים  $(x, y)$ , כך:  $t = \frac{4y}{x}$ .

נגדיר תועלת  $u$  כפונקציה של המשתנים  $(x, y)$ , באופן הבא:

$$u(x, y) = g(t) = g\left(\frac{4y}{x}\right)$$

א. באיור שלהלן קרן עם שיפוע 1.

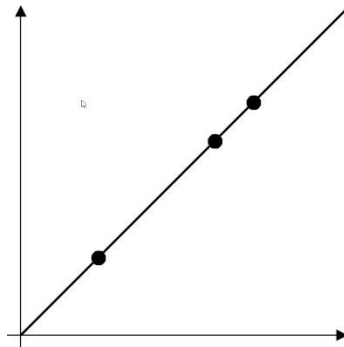
מה הערך של התועלת בנקודות המסומנות על הקרן?

ב. הוכיחו כי הקרן  $4y - x = 0$  היא עקומת אדישות של התועלת.

ציירו את הקרן הזאת ורשמו באיור מה הערך של התועלת.

ג. הוכיחו כי התועלת היא פונקציה הומוגנית. מהו סדר ההומוגניות?

ד. הוכיחו כי  $u_x(1,2) = -16$ .



10) נניח ש-  $f = f(x, y)$  הומוגנית מסדר 1.

$$\text{הוכיחו כי } x^2 f_{xx} + 2xy f_{xy} + y^2 f_{yy} = 0.$$

**11** הוכיחו או הפריכו כל אחת מהטענות הבאות :

א. אם  $f_x(x, y)$  הומוגנית מסדר 4, אז  $f(x, y)$  הומוגנית מסדר 5.

ב. אם פונקציה  $f(x, y)$  מקיימת  $f(2, 4) = 2^3 f(1, 2)$ ,

אז הפונקציה הומוגנית מסדר 3.

### תשובות סופיות

(1) שאלת הוכחה.

(2) שאלת הוכחה.

(3) שאלת הוכחה.

(4) א. שאלת הוכחה. ב.  $h(2, 1) = 4$   $h'_y(2, 1) = 8$

(5) א. שאלת הוכחה. ב.  $g(1, 8) = 0$   $f(1, 8) = 9$

(6)  $-\frac{3}{4}$

(7) א.  $B(4, 8)$  ב. 12 ג. שאלת הוכחה והסבר.

(8) א. 2 ב.  $f_x(1, 0.5) = \frac{54}{7}$   $f_y(2, 1) = -\frac{3\left(\frac{108}{7}\right)}{2}$   $f_x(2, 1) = \frac{108}{7}$

(9) א. 5 ב-ד. שאלות הוכחה.

(10) שאלת הוכחה.

(11) א. הטענה אינה נכונה. ב. הטענה אינה נכונה.

# מתמטיקה לחשבונאים ב

פרק 5 - קיצון ואוכף לפונקציה של שני משתנים

תוכן העניינים

1. קיצון ואוכף לפונקציה של שני משתנים ..... 29

## קיצון ואוכף לפונקציה של שני משתנים

### שאלות

עבור כל אחת מהפונקציות בשאלות 1-8, מצאו נקודות קריטיות וסווגו אותן למקסימום, מינימום או אוכף:

$$f(x, y) = 8x^3 + 12xy + 3y^2 - 18x \quad (1)$$

$$f(x, y) = x^3 + y^3 - 3x - 12y + 20 \quad (2)$$

$$f(x, y) = x^3 + y^3 - 3xy + 4 \quad (3)$$

$$f(x, y) = 3x - x^3 - 2y^2 + y^4 \quad (4)$$

$$f(x, y) = e^{4y-x^2-y^2} \quad (5)$$

$$f(x, y) = y\sqrt{x} - y^2 - x + 6y \quad (6)$$

$$f(x, y) = \frac{x^2y^2 - 8x + y}{xy} \quad (7)$$

$$f(x, y) = e^x \cos y \quad (8)$$

(9) נתון משטח  $z = x^3 + y^3 - 3xy + 4$ . מצאו את משוואות המישורים המשיקים האופקיים למשטח.

(10) מבין כל התיבות הפתוחות שנפחן 32 סמ"ק, חשבו את ממדי התיבה ששטח הפנים שלה הוא מינימלי.

(11) מצאו את המרחק הקצר ביותר מהנקודה  $(1, 2, 3)$  למישור  $-2x - 2y + z = 0$ , וכן את הנקודה על המישור הקרובה ביותר לנקודה הנ"ל.

- 12** יצרן מוכר מחשבונים, בארץ ובסין. עלות הייצור של מחשבון בארץ היא \$6 ועלות ייצור מחשבון בסין היא \$8. מנהל השיווק אומד את הביקוש  $Q_1$  למחשבון בארץ, ואת הביקוש  $Q_2$  למחשבון בסין, על ידי:  $Q_1 = 116 - 30P_1 + 20P_2$ ,  $Q_2 = 144 + 16P_1 - 24P_2$ . כיצד צריכה החנות לקבוע את מחירי המחשבונים,  $P_1$  ו-  $P_2$ , על מנת למקסם את הרווח? מהו רווח זה?

- 13** נתונה הפונקציה  $f(x, y) = x^2 + y^2 + axy$ .
- א. הוכיחו שהנקודה  $(0, 0)$  היא נקודה קריטית.
- ב. בעזרת מבחן הנגזרת השנייה, קבעו עבור אילו ערכים של  $a$  הנקודה מסעיף א' היא מקסימום, מינימום, אוכלף, או שלא ניתן לדעת.

- 14** מצאו שני מספרים,  $b > a$ , כך ש-  $\int_a^b (24 - 2x - x^2)^{\frac{1}{5}} dx$  יהיה מקסימלי.

### תשובות סופיות

- 1**  $(-0.5, 1)$  אוכלף;  $(1.5, -3)$  מינימום.
- 2**  $(1, 2)$  מינימום;  $(-1, -2)$  מקסימום;  $(-1, 2)$ ,  $(1, -2)$  אוכלף.
- 3**  $(0, 0)$  אוכלף;  $(1, 1)$  מינימום.
- 4**  $(-1, -1)$ ,  $(-1, 1)$  מינימום;  $(1, 0)$  מקסימום;  $(1, -1)$ ,  $(1, 1)$ ,  $(-1, 0)$  אוכלף.
- 5**  $(0, 2)$  מקסימום.
- 6**  $(4, 4)$  מקסימום.
- 7**  $(-0.5, 4)$  מקסימום.
- 8** אין נקודות קריטיות.
- 9**  $z = 4$ ,  $z = 3$
- 10** רוחב 4 ס"מ, אורך 4 ס"מ, גובה 2 ס"מ.
- 11** מרחק מינימלי הוא 1 יחידות אורך. נקודה קרובה ביותר  $(1/3, 4/3, 10/3)$ .
- 12**  $P_1 = 10\$$ ,  $P_2 = 12\$$  רווח מקסימלי \$288.
- 13** א. שאלת הוכחה. ב. עבור  $a = 2$ ,  $a = -2$ , לא ניתן לדעת;  $a > 2$ ,  $a < -2$  אוכלף;  $-2 < a < 2$  מינימום.
- 14**  $a = -6$ ,  $b = 4$

# מתמטיקה לחשבונאים ב

פרק 6 - קיצון של פונקציה של שני משתנים תחת אילוץ (כופלי לגראנז')

תוכן העניינים

1. קיצון של פונקציה של שני משתנים תחת אילוץ..... 31

## קיצון של פונקציה של שני משתנים תחת אילוץ (כופלי לגראנז')

### שאלות

בשאלות 1-4 מצאו את המקסימום והמינימום של הפונקציות, בכפוף לאילוץ הנתון:

$$f(x, y) = x^2 + y^2; \quad 2x^2 + 3xy = 1 - 2y^2 \quad (1)$$

$$f(x, y) = x^2 - y^2; \quad x^2 + y^2 = 1 \quad (2)$$

$$f(x, y) = 4x + 6y; \quad x^2 + y^2 = 13 \quad (3)$$

$$f(x, y) = x^2 y; \quad x^2 + 2y^2 = 6 \quad (4)$$

$$\text{נתונה בעיית הקיצון } \max\{xy\} \text{ s.t. } x + 3y = 12 \text{ , כאשר } x, y > 0 \quad (5)$$

א. פתרו את הבעיה.

ב. הביאו פתרון גרפי לבעיה.

$$\text{נתונה בעיית הקיצון } \max\{2x + y\} \text{ s.t. } \sqrt{x} + \sqrt{y} = 9 \text{ , כאשר } x, y \geq 0 \quad (6)$$

א. פתרו את הבעיה.

ב. הביאו פתרון גרפי לבעיה.

$$\text{מבין כל הנקודות הנמצאות על הישר } x + 3y = 12 \quad (7)$$

מצאו את זו שמכפלת שיעוריה מקסימלי.

$$\text{מבין כל הנקודות שעל העקומה } 2x^2 + 3xy = 1 - 2y^2 \text{ , מצאו את הנקודות} \quad (8)$$

שמרחקן מראשית הצירים הוא מינימלי, ואת הנקודות שמרחקן מראשית

הצירים הוא מקסימלי.

$$\text{מצאו את המרחק הקצר ביותר מהישר } 3x - 6y + 4 = 0 \quad (9)$$

$$\text{לפרבולה } x^2 + 2xy + y^2 + 4y = 0.$$

$$\text{רמז: מרחק הנקודה } (x_0, y_0) \text{ מהישר } ax + by + c = 0 \text{ , הוא } \frac{|ax_0 + by_0 + c|}{\sqrt{a^2 + b^2}}.$$

- 10** מוישליה קונה בשוק  $x$  ק"ג מלפפונים ו- $y$  ק"ג עגבניות. התועלת מצריכת הסל,  $(x, y)$ , נתונה על ידי  $u(x, y) = \ln x + \ln y$ . מחיר ק"ג מלפפונים 1 ש"ח, ומחיר ק"ג עגבניות 2 ש"ח. מוישליה קובע לעצמו להשיג רמת תועלת  $\ln 16$ , והוא מעוניין להשיג זאת בעלות מינימאלית. נסחו ופתרו את בעיית מוישליה.
- 11** דני קונה בשוק  $x$  ק"ג מלפפונים ו- $y$  ק"ג עגבניות. התועלת מצריכת הסל  $(x, y)$  נתונה על ידי  $u(x, y) = xy$ . מחיר ק"ג מלפפונים 1 ש"ח, ומחיר ק"ג עגבניות 3 ש"ח. לדני תקציב של 12 ש"ח. נסחו ופתרו את בעיית דני.
- 12** עקומת התמורה בין מנגו,  $(x)$ , ואננס,  $(y)$ , היא  $x^2 + y^2 = 13$ . לדני תועלת  $f(x, y) = 4x + 6y$ . דני מחפש את הסל (אננס, מנגו)  $(x, y)$  על עקומת התמורה, המביא למקסימום את התועלת שלו מצריכת מנגו ואננס. נסחו ופתרו את הבעיה.
- 13** ליצרן פונקציית ייצור  $Q = \sqrt{k} + \sqrt{L}$ . המחירים ליחידת  $K$  ו- $L$  הם  $P_K = 2, P_L = 1$ . היצרן נמצאו ברמת תפוקה 100 והוא מחפש את הצירוף  $(K^*, L^*)$ , המביא למינימום את העלות. נסחו את בעיית היצרן (לא לפתור).
- 14** נתונה בעיית קיצון תחת אילוץ  $\max\{u(x, y)\} \text{ s.t. } p_1x + p_2y = I$ . תהי  $(x^*, y^*)$  נקודת הפתרון של הבעיה. ניתן להניח מצב קלאסי של השקה. הוכיחו כי כופל לגראנז'  $\lambda$  מקיים  $\lambda = \frac{x \cdot u_x + y \cdot u_y}{I}$  בנקודת הפתרון של הבעיה.

**תשובות סופיות**

$$\max(\pm 1, \mp 1) \quad \min(\pm\sqrt{1/7}, \pm\sqrt{1/7}) \quad (1)$$

$$\min(0, \pm 1) \quad \max(\pm 1, 0) \quad (2)$$

$$\max(2, 3) \quad \min(-2, -3) \quad (3)$$

$$\max(\pm 2, 1) \quad \min(\pm 2, -1) \quad (4)$$

$$\max(6, 2) \quad (5)$$

$$\max(9, 36) \quad (6)$$

$$(6, 2) \quad (7)$$

$$\max(\pm 1, \mp 1) \quad \min(\pm\sqrt{1/7}, \pm\sqrt{1/7}) \quad (8)$$

$$7 / \sqrt{45} \quad (9)$$

$$\min(\sqrt{32}, \sqrt{8}) \quad (10)$$

$$\max(6, 2) \quad (11)$$

$$\max(2, 3) \quad (12)$$

$$\min\{2K + L\}; \quad \sqrt{K} + \sqrt{L} = 100 \quad (13)$$

$$\text{שאלת הוכחה.} \quad (14)$$

# מתמטיקה לחשבונאים ב

פרק 7 - קיצון של פונקציה של שלושה משתנים תחת אילוצים

תוכן העניינים

1. קיצון של פונקציה של שלושה משתנים תחת אילוצים ..... 34

## קיצון של פונקציה של שלושה משתנים תחת אילוצים

### שאלות

- (1) מבין כל התיבות הפתוחות שנפחן 32 סמ"ק, חשבו את ממדי התיבה ששטח הפנים שלה הוא מינימלי.
- (2) מצאו על פני הכדור  $x^2 + y^2 + z^2 = 36$  את הנקודות הקרובות ביותר לנקודה  $(1, 2, 2)$  ואת הנקודות הרחוקות ביותר מהנקודה  $(1, 2, 2)$ .
- (3) ענו על הסעיפים הבאים:  
 א. מצאו את המרחק הקצר ביותר מהנקודה  $(1, 2, 3)$  למישור  $-2x - 2y + z = 0$ .  
 ב. מצאו נקודה על המישור  $-2x - 2y + z = 0$ , שהיא הקרובה ביותר לנקודה  $(1, 2, 3)$ .  
 ג. בדקו את התשובה על ידי חישוב המרחק בעזרת הנוסחה למרחק בין נקודה למישור.
- (4) מצאו את הנקודות על המשטח  $z^2 = xy + 1$  הקרובות ביותר לראשית.
- (5) מצאו את המרחק הגדול ביותר והקטן ביותר מהאליפסואיד  $\frac{x^2}{96} + y^2 + z^2 = 1$  למישור  $3x + 4y + 12z = 288$ . רמז: מרחק הנקודה  $(x_0, y_0, z_0)$  מהמישור  $ax + by + cz + d = 0$ , הוא  $\frac{|ax_0 + by_0 + cz_0 + d|}{\sqrt{a^2 + b^2 + c^2}}$ .
- (6) מצאו מרחק מינימלי ומקסימלי בין העקום המתקבל מחיתוך הגליל  $x^2 + y^2 = 1$  והמישור  $z = x + y$  לבין ראשית הצירים.
- (7) מצאו מרחק מינימלי ומקסימלי בין העקום המתקבל מחיתוך האליפסואיד  $\frac{x^2}{4} + \frac{y^2}{5} + \frac{z^2}{25} = 1$  והמישור  $z = x + y$ , לבין ראשית הצירים.

### הערה חשובה

בפתרון מרבית התרגילים בפרק זה, אנו מסיקים שנקודה קריטית היא נקודת קיצון משיקולים פסיקליים או גיאומטריים, היות ומדובר בבעיות מעשיות. ישנן דרכים מתמטיות מתקדמות להוכיח פורמלית, אך מאחר ולא נהוג ללמד אותן ברוב מוסדות הלימוד, הסתפקנו בכך.

## תשובות סופיות

- (1) רוחב 4 ס"מ, אורך 4 ס"מ, גובה 2 ס"מ.
- (2) הנקודה הקרובה ביותר היא הנקודה  $(2, 4, 4)$ , והנקודה הרחוקה ביותר היא הנקודה  $(-2, -4, -4)$ .
- (3) א. מרחק מינימלי הוא 1 יחידות אורך.  
ב. הנקודה הקרובה ביותר  $(\frac{1}{3}, \frac{4}{3}, \frac{10}{3})$ .
- (4)  $(0, 0, 1)$ ,  $(0, 0, -1)$
- (5) המרחק הקצר ביותר  $\frac{256}{13}$ . המרחק הארוך ביותר  $\frac{320}{13}$ .
- (6) מרחק מינימלי 1. מרחק מקסימלי  $\sqrt{3}$ .
- (7) מרחק מינימלי  $\frac{75}{17}$ . מרחק מקסימלי 10.

# מתמטיקה לחשבונאים ב

פרק 8 - קיצון מוחלט של פונקציה בשני משתנים בקבוצה סגורה וחסומה

תוכן העניינים

1. קיצון מוחלט של פונקציה בשני משתנים בקבוצה סגורה וחסומה..... 36

## קיצון מוחלט של פונקציה בשני משתנים – בקבוצה סגורה וחסומה

### שאלות

- (1) חשבו את המקסימום המוחלט ואת המינימום המוחלט של  $f(x, y) = 3xy - 6x - 3y + 7$  בתחום  $R$ , כאשר  $R$  הוא התחום הסגור, בצורת משולש שקודקודיו הם  $(0, 5), (3, 0), (0, 0)$ .
- (2) חשבו את המקסימום המוחלט ואת המינימום המוחלט של  $f(x, y) = x^2 - 3y^2 - 2x + 6y$  בתחום  $R$ , כאשר  $R$  הוא התחום הסגור, בצורת ריבוע שקודקודיו הם  $(2, 0), (2, 2), (0, 2), (0, 0)$ .
- (3) חשבו את המקסימום המוחלט ואת המינימום המוחלט של  $f(x, y) = x^2 + 2y^2 - x$  בתחום  $R$ , כאשר  $R$  הוא העיגול  $x^2 + y^2 \leq 4$ .
- (4) חשבו את המקסימום המוחלט ואת המינימום המוחלט של  $f(x, y) = x^2 + y^2 - xy + x + y$  בתחום  $R$ , כאשר  $R$  הוא התחום הסגור  $R = \{(x, y) \mid x + y \geq -3, x \leq 0, y \leq 0\}$ .
- (5) חשבו את המקסימום המוחלט ואת המינימום המוחלט של  $f(x, y) = x^2 + y^2 - 12x + 16y$  בתחום  $R$ , כאשר  $R$  הוא התחום הסגור  $R = \{(x, y) \mid x^2 + y^2 \leq 1, 3x \geq -y\}$ .

### תשובות סופיות

- (1) מקסימום מוחלט 7. מינימום מוחלט -11.
- (2) מקסימום מוחלט 3. מינימום מוחלט -1.
- (3) מקסימום מוחלט  $\frac{33}{4}$ . מינימום מוחלט  $-\frac{1}{4}$ .
- (4) מקסימום מוחלט 6. מינימום מוחלט -1.
- (5) מקסימום מוחלט  $1 + 6\sqrt{10}$ . מינימום מוחלט  $1 - 6\sqrt{10}$ .

# מתמטיקה לחשבונאים ב

פרק 9 - פתרון וחקירת מערכת משוואות ליניאריות

תוכן העניינים

1. פתרון מערכת משוואות ליניאריות ..... 37
2. חקירת מערכת משוואות ליניאריות (עם פרמטר) ..... 42
3. פתרון וחקירת מערכת הומוגנית של משוואות ליניאריות ..... 45
4. שימושים של מערכת משוואות ליניאריות ..... 48

## פתרון מערכת משוואות ליניאריות

## שאלות

(1) מצאו אילו מהמערכות הבאות הן מערכות שקולות:

$$\begin{array}{llll} 2x+y=4 & x-y=0 & x-4y=-7 & x+10y=11 \\ x+y=3 & 2x+y=3 & x-y=-1 & 2x-2y=0 \end{array} \begin{array}{l} \text{ד.} \\ \text{ג.} \\ \text{ב.} \\ \text{א.} \end{array}$$

(2) רשמו את המטריצות המתאימות למערכות המשוואות הבאות:

$$\begin{array}{llll} x=3 & 2x+y+z=3 & x-4y+z=-7 & x+10y=11 \\ 2x+y=4 & x-z=0 & x-y=-1 & 2x-2=0 \\ z+t=8 & & x+y+z=5 & x+y=3 \end{array} \begin{array}{l} \text{ד.} \\ \text{ג.} \\ \text{ב.} \\ \text{א.} \end{array}$$

בשאלות 3-5 בצעו על כל מטריצה את הפעולות הרשומות מתחתיה, בזו אחר זו, ומצאו את המטריצה המתקבלת (סדר הפעולות הוא משמאל לימין ומלמעלה למטה).

$$\begin{array}{lll} \begin{pmatrix} 3 & -4 & 8 & 1 \\ 2 & -3 & 6 & 0 \\ -1 & 4 & -5 & 1 \end{pmatrix} & \text{(5)} & \begin{pmatrix} 4 & 1 & 0 & 2 \\ -1 & 2 & 1 & 0 \\ 0 & 3 & 1 & -1 \end{pmatrix} & \text{(4)} & \begin{pmatrix} 3 & 5 & -1 & 0 \\ 2 & 1 & 4 & 2 \\ 5 & 0 & -2 & 6 \end{pmatrix} & \text{(3)} \\ R_1 \rightarrow R_1 + 3R_3, R_2 \rightarrow R_2 + 3R_3 & & R_2 \rightarrow 4R_2, R_2 \rightarrow R_2 + R_1 & & R_1 \leftrightarrow R_2, R_1 \rightarrow 2R_1 \\ R_1 \rightarrow 5R_1 - 8R_2 & & R_2 \leftrightarrow R_3, R_3 \rightarrow R_3 - 3R_2 & & R_3 \rightarrow R_3 + R_1, R_1 \leftrightarrow R_3 \end{array}$$

(6) מצאו איזה פעולה אלמנטרית אחת יש לבצע על המטריצה שמשמאל, כדי לקבל את המטריצה מימין:

$$\begin{array}{l} \begin{pmatrix} 1 & -2 & 4 \\ 4 & 1 & 1 \end{pmatrix} \rightarrow \begin{pmatrix} 6 & -3 & 9 \\ 4 & 1 & 1 \end{pmatrix} \text{ א.} \\ \begin{pmatrix} 1 & 0 & -4 & 1 \\ 4 & 2 & 1 & 1 \\ 0 & 1 & 0 & 4 \end{pmatrix} \rightarrow \begin{pmatrix} 1 & 0 & -4 & 1 \\ 0 & 2 & 17 & -3 \\ 0 & 1 & 0 & 4 \end{pmatrix} \text{ ב.} \\ \begin{pmatrix} 1 & 0 \\ 0 & 1 \\ 4 & 4 \end{pmatrix} \rightarrow \begin{pmatrix} 1 & 0 \\ 4 & 2 \\ 4 & 4 \end{pmatrix} \text{ ג.} \end{array}$$

בשאלות 7-15 הביאו את המטריצות הבאות לצורה מדורגת  
 (בשאלות 7, 9, 11 ו-13 – גם לצורה מדורגת קנונית):

$$\begin{pmatrix} 3 & 6 & 3 & -6 & 5 \\ 2 & 4 & 1 & -2 & 3 \\ 1 & 2 & -1 & 2 & 1 \end{pmatrix} \quad (8) \qquad \begin{pmatrix} 1 & 2 & -3 & -2 & 4 & 1 \\ 2 & 5 & -8 & -1 & 6 & 4 \\ 1 & 4 & -7 & 5 & 2 & 8 \end{pmatrix} \quad (7)$$

$$\begin{pmatrix} 4 & 1 & 1 & 5 \\ 0 & 11 & -5 & 3 \\ 2 & -5 & 3 & 1 \\ 1 & 3 & -1 & 2 \end{pmatrix} \quad (10) \qquad \begin{pmatrix} 1 & 2 & -1 & 3 \\ 1 & 3 & 1 & 5 \\ 3 & 8 & 4 & 17 \end{pmatrix} \quad (9)$$

$$\begin{pmatrix} 0 & 0 & 0 & 1 & 1 & 0 \\ 0 & 0 & 0 & 0 & 1 & 0 \\ 0 & 0 & 0 & 0 & 0 & 0 \\ 0 & 0 & 1 & 1 & 1 & 1 \end{pmatrix} \quad (12) \qquad \begin{pmatrix} 1 & 2 & 1 & 3 & 5 \\ 2 & 5 & 3 & 1 & 6 \\ 1 & -1 & -2 & 2 & 1 \\ -2 & 3 & 5 & -4 & -1 \end{pmatrix} \quad (11)$$

$$\begin{pmatrix} 1 & 3 & -2 & 2 & 3 \\ 1 & 4 & -3 & 4 & 2 \\ 2 & 3 & -1 & -2 & 9 \\ 1 & 3 & 0 & 2 & 1 \\ 2 & 5 & 3 & 2 & 1 \\ 1 & 5 & -6 & 6 & 3 \end{pmatrix} \quad (14) \qquad \begin{pmatrix} 1 & 2 & 1 & 3 & 5 \\ 2 & 5 & 3 & 1 & 6 \\ -1 & 1 & 2 & -2 & -1 \\ -2 & 3 & 5 & -4 & -1 \\ 3 & -2 & -5 & 1 & -1 \end{pmatrix} \quad (13)$$

$$\begin{pmatrix} 1 & 1+i \\ 1+i & 2i \\ 2+i & 1+3i \end{pmatrix} \quad (15)$$

$$F=\mathbb{C}, F=\mathbb{R}$$

\* בשאלה 15 יש לדרג את המטריצה פעם מעל השדה  $\mathbb{C}$  ופעם מעל השדה  $\mathbb{R}$ .

בשאלות 16-27 פתרו את מערכות המשוואות בשיטת גאוס (כלומר, על ידי דירוג):

$$\begin{aligned} 4x + 8y &= 20 \\ 3x + 6y &= 15 \end{aligned} \quad (17)$$

$$\begin{aligned} 2x + 3y &= 8 \\ 5x - 4y &= -3 \end{aligned} \quad (16)$$

$$\begin{aligned} 2x_1 - x_2 - 3x_3 &= 5 \\ 3x_1 - 2x_2 + 2x_3 &= 5 \\ 10x_1 - 6x_2 - 2x_3 &= 32 \end{aligned} \quad (19)$$

$$\begin{aligned} 8x - 4y &= 10 \\ -6x + 3y &= 1 \end{aligned} \quad (18)$$

$$\begin{aligned} x + 2y + 3z &= 3 \\ 4x + 6y + 16z &= 8 \\ 3x + 2y + 17z &= 1 \end{aligned} \quad (21)$$

$$\begin{aligned} x + 2y + 3z &= -11 \\ 2x + 3y - z &= -5 \\ 3x + y - z &= 2 \end{aligned} \quad (20)$$

$$\begin{aligned} 4x - 7y &= 0 \\ 8x - 14y &= 2 \\ -16x + 28y &= 4 \end{aligned} \quad (23)$$

$$\begin{aligned} x + 3y &= 2 \\ 2x + y &= -1 \\ x - y &= -2 \end{aligned} \quad (22)$$

$$\begin{aligned} x + 2y - 3z + 2t &= 2 \\ 2x + 5y - 8z + 6t &= 5 \\ 6x + 8y - 10z + 4t &= 8 \end{aligned} \quad (25)$$

$$\begin{aligned} 3x - 2y &= 1 \\ -9x + 6y &= -3 \\ 6x - 4y &= 2 \end{aligned} \quad (24)$$

$$\begin{aligned} x + 2y + 2z &= 2 \\ 3x - 2y - z &= 5 \\ 2x - 5y + 3z &= -4 \\ 2x + 8y + 12z &= 0 \end{aligned} \quad (27)$$

$$\begin{aligned} x_1 + 5x_2 + 4x_3 - 13x_4 &= 3 \\ 3x_1 - x_2 + 2x_3 + 5x_4 &= 2 \\ 2x_1 + 2x_2 + 3x_3 - 4x_4 &= 0 \end{aligned} \quad (26)$$

28) פתרו את מערכת המשוואות הבאה בשיטת גאוס, מעל השדה  $\mathbf{F}$ :

$$z_1 + iz_2 + (1-i)z_3 = 1 + 4i$$

$$iz_1 + z_2 + (1+i)z_3 = 2 + i$$

$$(-1+3i)z_1 + (3-i)z_2 + (2+4i)z_3 = 5 - i$$

א.  $\mathbf{F} = \mathbb{R}$

ב.  $\mathbf{F} = \mathbb{C}$

## תשובות סופיות

1) א ו-ג שקולות, ו-ב ו-ד שקולות.

$$\begin{pmatrix} 2 & 1 & 1 & 3 \\ 1 & 0 & -1 & 0 \end{pmatrix} \text{ ג.} \quad \begin{pmatrix} 1 & -4 & 1 & -7 \\ 1 & -1 & 0 & -1 \\ 1 & 1 & 1 & 5 \end{pmatrix} \text{ ב.} \quad \begin{pmatrix} 1 & 10 & 11 \\ 2 & 0 & 2 \\ 1 & 1 & 3 \end{pmatrix} \text{ א.} \quad (2)$$

$$\begin{pmatrix} 1 & 0 & 0 & 0 & 3 \\ 2 & 1 & 0 & 0 & 4 \\ 0 & 0 & 1 & 1 & 8 \end{pmatrix} \text{ ד.}$$

$$\begin{pmatrix} 0 & 0 & -4 & 4 \\ 0 & 5 & -4 & 2 \\ -1 & 4 & -5 & 1 \end{pmatrix} (5) \quad \begin{pmatrix} 4 & 1 & 0 & 2 \\ 0 & 3 & 1 & -1 \\ 0 & 0 & 1 & 5 \end{pmatrix} (4) \quad \begin{pmatrix} 9 & 2 & 6 & 8 \\ 3 & 5 & -1 & 0 \\ 4 & 2 & 8 & 2 \end{pmatrix} (3)$$

6) א.  $R_1 \rightarrow 2R_1 + R_2$  ב.  $R_2 \rightarrow R_2 - 4R_1$  ג.  $R_2 \rightarrow 2R_2 + 4R_1$

$$\begin{pmatrix} 1 & 0 & 1 & 0 & 24 & 21 \\ 0 & 1 & -2 & 0 & -8 & -7 \\ 0 & 0 & 0 & 1 & 2 & 3 \end{pmatrix} \text{ ו-} \quad \begin{pmatrix} 1 & 2 & -3 & -2 & 4 & 1 \\ 0 & 1 & -2 & 3 & -2 & 2 \\ 0 & 0 & 0 & 1 & 2 & 3 \end{pmatrix} (7)$$

$$\begin{pmatrix} 1 & 2 & -1 & 2 & 1 \\ 0 & 0 & 3 & -6 & 1 \\ 0 & 0 & 0 & 0 & 0 \end{pmatrix} (8)$$

$$\begin{pmatrix} 1 & 0 & 0 & \frac{17}{3} \\ 0 & 1 & 0 & -\frac{2}{3} \\ 0 & 0 & 1 & \frac{4}{3} \end{pmatrix} \text{ ו-} \quad \begin{pmatrix} 1 & 2 & -1 & 3 \\ 0 & 1 & 2 & 2 \\ 0 & 0 & 3 & 4 \end{pmatrix} (9)$$

$$\begin{pmatrix} 1 & 3 & -1 & 2 \\ 0 & 11 & -5 & 3 \\ 0 & 0 & 0 & 0 \\ 0 & 0 & 0 & 0 \end{pmatrix} (10)$$

$$\begin{pmatrix} 1 & 0 & -1 & 0 & 0 \\ 0 & 1 & 1 & 0 & 1 \\ 0 & 0 & 0 & 1 & 1 \\ 0 & 0 & 0 & 0 & 0 \end{pmatrix} \text{ ו-} \quad \begin{pmatrix} 1 & 2 & 1 & 3 & 5 \\ 0 & 1 & 1 & -5 & -4 \\ 0 & 0 & 0 & 1 & 1 \\ 0 & 0 & 0 & 0 & 0 \end{pmatrix} (11)$$

$$\begin{pmatrix} 0 & 0 & 1 & 1 & 1 & 1 \\ 0 & 0 & 0 & 1 & 1 & 0 \\ 0 & 0 & 0 & 0 & 1 & 0 \\ 0 & 0 & 0 & 0 & 0 & 0 \end{pmatrix} (12)$$

$$\begin{pmatrix} 1 & 0 & -1 & 0 & 0 \\ 0 & 1 & 1 & 0 & 1 \\ 0 & 0 & 0 & 1 & 1 \\ 0 & 0 & 0 & 0 & 0 \\ 0 & 0 & 0 & 0 & 0 \end{pmatrix} \rightarrow \begin{pmatrix} 1 & 2 & 1 & 3 & 5 \\ 0 & 1 & 1 & -5 & -4 \\ 0 & 0 & 0 & 1 & 1 \\ 0 & 0 & 0 & 0 & 0 \\ 0 & 0 & 0 & 0 & 0 \end{pmatrix} \quad (13)$$

$$\begin{pmatrix} 1 & 3 & -2 & 2 & 3 \\ 0 & 1 & -1 & 2 & -1 \\ 0 & 0 & -2 & 0 & 2 \\ 0 & 0 & 0 & 0 & 0 \\ 0 & 0 & 0 & 0 & 0 \\ 0 & 0 & 0 & 0 & 0 \end{pmatrix} \quad (14)$$

$$\begin{pmatrix} 1 & 1+i \\ 1+i & 2i \\ 0 & 0 \end{pmatrix}, \begin{pmatrix} 1 & 1+i \\ 0 & 0 \\ 0 & 0 \end{pmatrix} \quad (15)$$

$F=\mathbb{R}$                        $F=\mathbb{C}$

$$\phi \quad (18) \quad (x, y) = (5 - 2t, t) \quad (17) \quad (x, y) = (1, 2) \quad (16)$$

$$(x_1, x_2, x_3) = (1, -3, -2) \quad (20) \quad \phi \quad (19)$$

$$(x, y) = (-1, 1) \quad (22) \quad (x, y, z) = (-1 - 7t, 2 + 2t, t) \quad (21)$$

$$(x, y) = \left( \frac{1+2t}{3}, t \right) \quad (24) \quad \phi \quad (23)$$

$$\phi \quad (26) \quad (x, y, z, t) = (-a + 2b, 1 + 2a - 2b, a, b) \quad (25)$$

$$(x, y, z) = (2, 1, -1) \quad (27)$$

$$(z_1, z_2, z_3) = ((-1+i)t + 1 + i, 3, t) \quad \text{ב} \quad (28) \quad (z_1, z_2, z_3) = (2, 3, -1) \quad \text{א} \quad (28)$$

$F=\mathbb{C}$                        $F=\mathbb{R}$

## חקירת מערכת משוואות לינאריות (עם פרמטר)

### שאלות

בשאלות 1-6 מצאו לאילו ערכי  $k$  (אם יש כאלה) יש למערכות:  
1. פתרון יחיד. 2. אף פתרון. 3. אינסוף פתרונות.

$$\begin{array}{l} x + ky + z = 1 \\ x + y + kz = 1 \quad (2) \\ kx + y + z = 1 \end{array} \quad \begin{array}{l} x - y + z = 1 \\ 5x - 7y + (k^2 + 3)z = k^2 + 1 \quad (1) \\ 3x - y + (k + 3)z = 3 \end{array}$$

$$\begin{array}{l} 2x - y + z = 0 \\ x + 2y - z = 0 \quad (4) \\ 5x + (1 - k)y + k^2z = 1 \end{array} \quad \begin{array}{l} x + 2ky + z = 0 \\ 3x + y + kz = 2 \quad (3) \\ x + 9ky + 5z = -2 \end{array}$$

$$\begin{array}{l} x + ky + 3z = 2 \\ kx - y + z = 4 \quad (6) \\ 3x + y + (2 + k)z = 0 \end{array} \quad \begin{array}{l} kx - y = 1 \\ (k - 2)x + ky = -2 \quad (5) \\ (k^2 - 1)z = 9 \end{array}$$

בשאלות 7-9 מצאו לאילו ערכי  $k$  (אם יש כאלה) יש למערכות:  
1. פתרון יחיד. 2. אף פתרון. 3. אינסוף פתרונות.

$$\begin{array}{l} 2x - 3y + z = 1 \\ 4x + (k^2 - 5k)y + 2z = k \quad (8) \end{array} \quad \begin{array}{l} 2x + ky = 3 \\ (k + 3)x + 2y = k^2 + 5 \quad (7) \\ 6x + 3ky = 7k^2 + 2 \end{array}$$

$$\begin{array}{l} 3x + 4y - z = 2 \\ kx - 2y + z = -1 \\ x + 8y - 3z = k \quad (9) \\ 2x + 6y - 2z = 0.5k + 1 \end{array}$$

בשאלות 10-12 מצאו לאילו ערכים של  $a$  ושל  $b$  (אם יש כאלה) יש למערכות:  
1. פתרון יחיד. 2. אף פתרון. 3. אינסוף פתרונות.

$$\begin{array}{l} x + y - z + t = 1 \\ ax + y + z + t = b \quad (12) \\ 3x + 2y + at = 1 + a \end{array} \quad \begin{array}{l} 2x + 4y + az = -1 \\ x + 2y + 4z = -4 \\ x + 2y - 4z = 0 \\ x + 2y + 6z = -2b \end{array} \quad \begin{array}{l} x + 2y - 4z = b \\ 7x - 10y + 16z = 7 \quad (10) \\ 2x - ay + 3z = 1 \end{array} \quad (11)$$

$$x + az = 1$$

$$y + 2z = 2 \quad (13) \text{ נתונה מערכת המשוואות:}$$

$$bx + cy + dz = 3$$

- א. מצאו תנאי עבור  $a, b, c, d$ , כך שלמערכת יהיה פתרון יחיד.  
 ב. מצאו תנאי עבור  $b, c, d$ , כך שלכל  $a$ , למערכת יהיו אינסוף פתרונות.

$$(14) \text{ נתונה המערכת: } \begin{cases} x + y - z = 1 \\ 3x - 7y + (k^2 + 1)z = k^2 - 1 \\ 4x - 6y + (k + 2)z = 4 \end{cases}$$

- א. רשמו את המטריצה המתאימה למערכת המשוואות.  
 ב. רשמו את הצורה המדורגת של המטריצה מסעיף א.  
 ג. מצאו לאילו ערכי  $k$  יש למערכת:  
 1. פתרון יחיד. 2. אף פתרון. 3. אינסוף פתרונות.  
 ד. רשמו את הפתרון הכללי במקרה בו יש אינסוף פתרונות.  
 ה. מצאו לאילו ערכי  $k$  יש למערכת פתרון שבו  $z = 0$ .  
 ו. מצאו לאילו ערכי  $k$  יש למערכת פתרון יחיד שבו  $z = 0$ .  
 ז. מצאו עבור איזה ערך של  $k$  פתרון של המשוואה השלישית הוא  $(1, 2, 3)$ .  
 האם ייתכן שהפתרון הנ"ל הוא גם פתרון של כל המערכת? הסבירו.  
 ח. מצאו לאיזה ערך של  $k$ , הוא הפתרון היחיד של המערכת.

$$(15) \text{ נתונות המשוואות של 3 מישורים: } \begin{cases} 3x + my = 3 \\ mx + 2y - mz = 1 \\ -x + mz = -1 \end{cases}$$

- בסעיפים א-ג מצאו עבור אילו ערכים של  $m$  שלוש המישורים:  
 א. נפגשים בנקודה אחת (מצא נקודה זו).  
 ב. לא נפגשים באף נקודה.  
 ג. בעלי אינסוף נקודות משותפות (מצא נקודות אילו).  
 ד. האם קיים ערך של  $m$  עבורו 3 המישורים מתלכדים או מקבילים?

## תשובות סופיות

(1) 1.  $k \neq 1, k \neq -2$  .2  $k = 1$  .3  $k = -2$

(2) 1.  $k \neq 1, k \neq -2$  .2  $k = -2$  .3  $k = 1$

(3) 1.  $k \neq -1, k \neq \frac{4}{7}$  .2  $k = \frac{4}{7}$  .3  $k = -1$

(4) 1.  $k \neq 1, k \neq -0.4$  .2  $k = 1, k = -0.4$

(5) 1.  $k \neq \pm 1, k \neq -2$  .2  $k = \pm 1, k = -2$

(6) 1.  $k \neq -1, k \neq -3, k \neq 2$  .3  $k = -1, k = -3, k = 2$

(7) 1.  $k = -1$  .2  $k \neq \pm 1$  .3  $k = 1$

(8) 1.  $k \neq 1$  .2  $k = 3$  .3  $k \neq 3$

(9) 1.  $k \neq 1$  .2  $k = 1$

(10) 1.  $a \neq 2$  .2  $a = 2, b \neq -3$  .3  $a = 2, b = -3$

(11) 1.  $a \neq -6$  או  $b \neq 2.5$  .2  $a = -6, b = 2.5$  .3

(12) 1.  $a = 2, b \neq 2$  .2  $a \neq 2$  או  $a = 2, b = 2$  .3

(13) א.  $ab + 2c \neq d$  .ב.  $b = 0, c = 1.5, d = 3$

(14) א.  $\begin{pmatrix} 1 & 1 & -1 & 1 \\ 3 & -7 & k^2 + 1 & k^2 - 1 \\ 4 & -6 & k + 2 & 4 \end{pmatrix}$  .ב.  $\begin{pmatrix} 1 & 1 & -1 & 1 \\ 0 & -10 & k^2 + 4 & k^2 - 4 \\ 0 & 0 & -k^2 + k + 2 & 4 - k^2 \end{pmatrix}$

ג. 1.  $k \neq 2, k \neq -1$  .2.  $k = -1$  .3.  $k = 2$  .ד.  $(x, y, z) = (1 + 0.2t, 0.8t, t)$

ה.  $k = \pm 2$  .ו.  $k = -2$  .ז.  $k = 2$ , לא. ח.  $k = -2$

(15) א.  $m \neq 0, -2, 3$  .ב.  $m = -2, 3$  .ג.  $m = 0$  .ד. לא.

## פתרון וחקירת מערכת הומוגנית של משוואות לינאריות

### שאלות

$$(1) \quad \begin{cases} x - y + z = 2 \\ x + y + 2z = 6 \\ 4x - 2y + 5z = 12 \end{cases} \quad \text{פתרו את המערכת}$$

על סמך הפתרון, קבעו את הפתרון של המערכת ההומוגנית המתאימה.

$$(2) \quad \begin{cases} x - y + z = 2 \\ x + y + 2z = 6 \\ x + y + z = 4 \end{cases} \quad \text{פתרו את המערכת}$$

על סמך הפתרון, קבעו את הפתרון של המערכת ההומוגנית המתאימה.

$$(3) \quad \begin{cases} x - y = 1 \\ -x + 2y - z = k \\ 2x + my + z = 3 \end{cases} \quad \text{נתונה המערכת:}$$

- א. מצאו את ערכי  $m$ , עבורם למערכת ההומוגנית המתאימה אינסוף פתרונות.  
 ב. עבור ערך  $m$  שנמצא ב-א, מצאו את ערכי  $k$ , עבורם למערכת פתרון.  
 ג. עבור ערכי  $m, k$  שנמצאו בסעיפים הקודמים, מצאו את הפתרון הכללי של המערכת הנתונה, וקבעו את הפתרון הכללי של המערכת ההומוגנית המתאימה.

(4) נתון שהחמישייה  $(4t - 2s + 4, -t + s, 2, t, s)$  מהווה פתרון כללי של מערכת ליניארית נתונה. קבעו אילו מבין הטענות הבאות נכונות:

- א. המערכת הנתונה היא מערכת הומוגנית.  
 ב. החמישייה  $(4, 0, 2, 0, 0)$ , היא פתרון פרטי של המערכת הנתונה.  
 ג. החמישייה  $(4, 0, 2, 1, 1)$ , היא פתרון של המערכת הנתונה.  
 ד. לכל  $a$  ממשי, החמישייה  $(4a, 0, 2a, 0, 0)$  אינה פתרון של המערכת הנתונה.  
 ה. החמישייה  $(4t - 2s, -t + s, 0, t, s)$ , היא פתרון כללי של המערכת ההומוגנית המתאימה.  
 ו. החמישייה  $(0, 1, 0, 1, 2)$ , היא פתרון פרטי של המערכת ההומוגנית המתאימה.  
 ז. במערכת הנתונה, מספר המשוואות לאחר דירוג הוא 2.

$$(5) \quad \begin{cases} 3x + my = 0 \\ mx + 2y - mz = 0 \\ -x + mz = 0 \end{cases}$$

נתונה המערכת ההומוגנית

יהי  $W$  אוסף הפתרונות של המערכת.  
 עבור אילו ערכים של הקבוע  $m$  (אם בכלל)  $W$  הוא:  
 א. נקודה (מצאו נקודה זו).  
 ב. ישר (מצאו ישר זה).  
 ג. מישור (מצאו מישור זה).

$$(6) \quad \text{נתונה המטריצה } A = \begin{pmatrix} 1 & 2 & 3 & 4 \\ 2 & a & b & c \\ 4 & d & e & f \\ -3 & g & h & i \end{pmatrix}$$

נסמן ב- $A'$  את הצורה המדורגת של  $A$ .  
 ידוע כי בממ"ל ההומוגנית המתאימה יש יותר משתנים חופשיים ממשתנים תלויים.  
 מצאו את  $A$ .

## תשובות סופיות

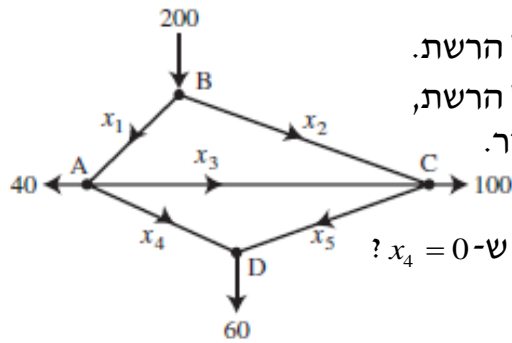
- (1) פתרון כללי של המערכת  $(4 - \frac{3}{2}t, -\frac{1}{2}t + 2, t)$ .
- פתרון כללי של המערכת ההומוגנית המתאימה הוא  $(-\frac{3}{2}t, -\frac{1}{2}t, t)$ .
- (2) למערכת פתרון יחיד  $(x, y, z) = (1, 1, 2)$ .
- למערכת ההומוגנית המתאימה פתרון יחיד  $(0, 0, 0)$ .
- (3) א.  $m = -3$  ב.  $k = -2$  ג. פתרון כללי של המערכת  $(x, y, z) = (t, t - 1, t)$ .
- פתרון כללי של המערכת ההומוגנית המתאימה הוא  $(t, t, t)$ .
- (4) א. הטענה לא נכונה. ב. הטענה נכונה. ג. הטענה לא נכונה. ד. הטענה לא נכונה. ה. הטענה נכונה. ו. הטענה לא נכונה. ז. הטענה לא נכונה.
- (5) א.  $m \neq 0, -2, 3$ . הנקודה היא  $(x, y, z) = (0, 0, 0)$ .
- ב. אם  $m = 0$  נקבל ישר  $\underline{x} = t(0, 0, 1)$ . אם  $m = 2$  נקבל ישר  $\underline{x} = t(2, -1, 1)$ .
- אם  $m = 3$  נקבל ישר  $\underline{x} = t(3, -3, 1)$ .
- ג. אין ערכים של  $m$  עבורם נקבל מישור.

$$A = \begin{pmatrix} 1 & 2 & 3 & 4 \\ 2 & 4 & 6 & 8 \\ 4 & 8 & 12 & 16 \\ -3 & -6 & -9 & -12 \end{pmatrix} \quad (6)$$

## שימושים של מערכת משוואות לינאריות

### שאלות

1) באיור שלהלן רשת זרימה המתארת את זרם התנועה (במכוניות לדקה) של מספר רחובות בתל אביב.



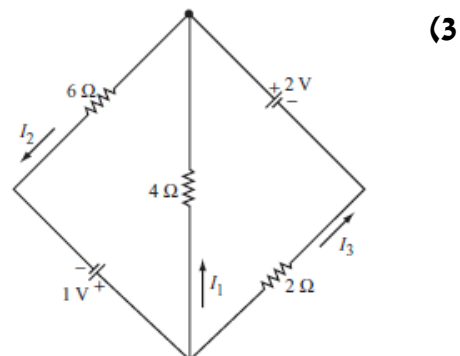
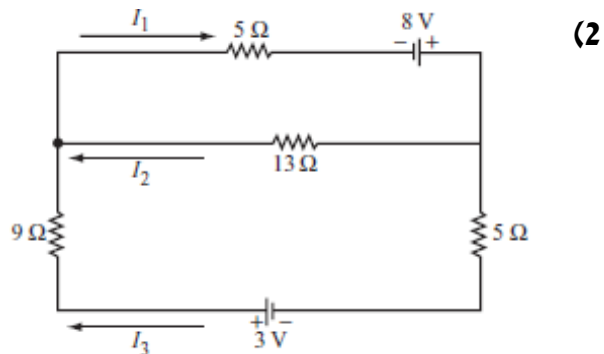
א. מצאו את תבנית הזרימה הכללית של הרשת.

ב. מצאו את תבנית הזרימה הכללית של הרשת,

אם ידוע שהכביש שהזרם שלו  $x_4$  סגור.

ג. מהו הערך המינימלי של  $x_1$ , אם ידוע ש- $x_4 = 0$ ?

בשאלות 2-3 מצאו את הזרמים במעגלים החשמליים (חוקי קירכהוף וחוק אוהם):



\* בפרק 3 (דטרמיננטות) תמצאו שאלות נוספות בנוגע מערכת משוואות לינאריות.

### תשובות סופיות

(1) א.  $x_3 = 100 - x_5$ ,  $x_1 = 100 + x_3 - x_5$ ,  $x_2 = 100 - x_3 + x_5$ ,  $x_4 = 60 - x_5$ . חופשיים.

ב.  $x_3 = 40 + x_5$ ,  $x_1 = 40 + x_5$ ,  $x_2 = 160 - x_5$ ,  $x_4 = 0$ ,  $x_5 = 60$ . ג. 40.

(2) א.  $I_1 = \frac{255}{317}$ ,  $I_2 = \frac{97}{317}$ ,  $I_3 = \frac{158}{317}$

(3)  $I_1 = -\frac{5}{22}$ ,  $I_2 = \frac{7}{22}$ ,  $I_3 = \frac{6}{11}$

# מתמטיקה לחשבונאים ב

פרק 10 - מטריצות

תוכן העניינים

50	1. מטריצות
55	2. מטריצות סימטריות ומטריצות אנטי-סימטריות
56	3. דרגה של מטריצה
60	4. מטריצה אלמנטרית
62	5. פירוק LU
63	6. תרגילי תיאוריה מתקדמים
65	7. המטריצה ההופכית
72	8. בחזרה למערכת משוואות ליניארית
79	9. שיטת הריבועים הפחותים - רגרסיה ליניארית

## מטריצות

## שאלות

1 נתונות המטריצות הבאות:  $A_{4 \times 6}$ ,  $B_{4 \times 6}$ ,  $C_{6 \times 2}$ ,  $D_{4 \times 2}$ ,  $E_{6 \times 4}$ .  
קבעו אילו מבין המטריצות הבאות מוגדרות.  
במידה והמטריצה מוגדרת, רשמו את סדר המטריצה:

- א.  $A+B$     ב.  $AB$     ג.  $AC-D$     ד.  $AE-B$   
ה.  $B+AB$     ו.  $E(B+A)$     ז.  $(E+A^T)D$     ח.  $E^T B$   
ט.  $E(AC)$     י.  $E(B-A)$

2 מצאו את  $x, y, z$ , אם ידוע כי:

$$\begin{pmatrix} x+2y & 3x-2y \\ 2x-5y & 2x+8y \end{pmatrix} = \begin{pmatrix} 2-2z & 5+z \\ -4-3z & -12z \end{pmatrix}$$

בשאלות 3-8 נתונות המטריצות הבאות:

$$A = \begin{pmatrix} 4 & 0 \\ 1 & 2 \\ -1 & 1 \end{pmatrix}, B = \begin{pmatrix} 4 & 1 \\ 0 & -2 \end{pmatrix}, C = \begin{pmatrix} 1 & 4 & 2 \\ 4 & 1 & 5 \end{pmatrix}, D = \begin{pmatrix} 1 & 4 & 2 \\ 1 & 0 & -1 \\ 4 & 2 & 10 \end{pmatrix},$$

$$E = \begin{pmatrix} 4 & 1 & 1 \\ -1 & 0 & 1 \\ 4 & 1 & -1 \end{pmatrix}, I_2 = \begin{pmatrix} 1 & 0 \\ 0 & 1 \end{pmatrix}, I_3 = \begin{pmatrix} 1 & 0 & 0 \\ 0 & 1 & 0 \\ 0 & 0 & 1 \end{pmatrix}$$

חשבו (במידה וניתן):

3 א.  $E+D$     ב.  $E-D+I_3$

ג.  $5C$     ד.  $2D+4EI_3$

4  $2tr(D^2 - 2E)$

5 א.  $4C^T + A$     ב.  $\frac{1}{2}A^T + \frac{1}{4}C$

6  $I_2 BC$

7  $tr(C^T C)$

8  $DABC$

- (9) נתון כי  $A$  מטריצה ריבועית מסדר  $n$ .  
נתון כי  $(A-I)(A+I) = 0$ .  
הוכיחו או הפריכו:  $A = I$  או  $A = -I$ .

(10) אפיינו את כל המטריצות  $A_{2 \times 2}$  שמקימות  $A^2 = -4I$ .

(11) הוכיחו כי לכל  $n$  טבעי מתקיים  $\begin{pmatrix} 2 & 0 \\ -1 & 1 \end{pmatrix}^n = \begin{pmatrix} 2^n & 0 \\ 1-2^n & 1 \end{pmatrix}$

הערה: תרגיל זה מיועד רק למי שנדרש לדעת הוכחות באינדוקציה.

- (12) שתי מטריצות  $A$  ו- $B$  יקראו מתחלפות אם  $AB = BA$ .  
הוכיחו או הפריכו על ידי דוגמה נגדית:

א. אם המטריצות  $A$  ו- $B$  מתחלפות עם המטריצה  $\begin{pmatrix} 0 & 1 \\ 1 & 0 \end{pmatrix}$ , אז המטריצות

$A$  ו- $B$  מתחלפות.

ב. אם המטריצה  $A$  מתחלפת עם המטריצה  $\begin{pmatrix} 0 & -1 \\ 1 & 0 \end{pmatrix}$ , אז  $A^T = -A$ .

- (13) תהי  $A$  מטריצה ריבועית מסדר  $n$ .  
נתון כי  $AA^T = 0$ . הוכיחו כי  $A = 0$ .

האם הטענה נשארת נכונה אם איברי  $A$  מרוכבים?  
אם כן, הוכיחו. אם לא, הביאו דוגמה נגדית.

- (14) יהיו  $A$  ו- $B$  מטריצות ריבועיות המקיימות  $AB = BA$  (מטריצות מתחלפות).  
א. הוכיחו כי לכל  $k$  טבעי מתקיים  $AB^k = B^k A$ .  
ב. הוכיחו כי לכל  $k$  טבעי מתקיים  $(AB)^k = A^k B^k$ .

(15) לפי נוסחת הבינום של ניוטון  $(A+B)^n = \sum_{k=1}^n \binom{n}{k} A^{n-k} B^k$ , כאשר

$$A, B \in \mathbb{R}, n, k \in \mathbb{N}$$

א. האם נוסחת הבינום נשארת נכונה גם אם  $A$  ו- $B$  מטריצות ריבועיות מסדר  $\ell$ ?

ב. מצאו תנאי מספיק על המטריצות  $A$  ו- $B$ , על מנת שנוסחת הבינום תהיה נכונה עבורן.

ג. מצאו את הפיתוח של  $(A+I)^n$  ו- $(A-I)^n$ , כאשר  $A$  ו- $I$  ריבועיות מסדר  $\ell$ .

**16** א. הגדירו והדגימו את המונח מטריצה נילפוטנטית.  
 ב. נניח ש- $A$  ו- $B$  מטריצות מתחלפות ונילפוטנטיות.  
 הוכיחו שגם המטריצות  $AB$  ו- $A+B$  נילפוטנטיות.

**17** תהי  $A_{n \times n}$  מטריצה שהאיברים שלה נתונים על ידי:  $a_{ij} = \min\{i, j\}$ .  
 תהי  $B_{n \times n}$  מטריצה שהאיברים שלה נתונים על ידי:  $b_{ij} = \begin{cases} 1 & i + j = n + 1 \\ 0 & \text{else} \end{cases}$ .

א. כתבו את המטריצות  $A$  ו- $B$  בצורה מפורשת.  
 ב. המטריצה  $C$  מקיימת  $C = A \cdot B$ .  
 חשבו את  $C$  ומצאו נוסחה עבור  $c_{ij}$  לכל  $1 \leq i, j \leq n$ .

**18** מצאו מטריצה ממשית  $A$ , כך שיתקיים  $A - \left( \begin{pmatrix} 0 & 1 \\ -1 & 0 \end{pmatrix} A \right)^T = A - A^T$ .

## תשובות סופיות

- (1) א.  $4 \times 6$  ב. לא. ג.  $4 \times 2$  ד. לא. ה. לא. ו.  $6 \times 6$   
ז.  $6 \times 2$  ח. לא ט.  $6 \times 4$  י.  $6 \times 6$

(2)  $(x, y, z) = (2, 1, -1)$

(3) א.  $\begin{pmatrix} 5 & 5 & 3 \\ 0 & 0 & 0 \\ 8 & 3 & 9 \end{pmatrix}$  ב.  $\begin{pmatrix} 4 & -3 & -1 \\ -2 & 1 & 2 \\ 0 & -1 & -10 \end{pmatrix}$  ג.  $\begin{pmatrix} 5 & 20 & 10 \\ 20 & 5 & 25 \end{pmatrix}$

ד.  $\begin{pmatrix} 18 & 12 & 8 \\ -2 & 0 & 2 \\ 24 & 8 & 16 \end{pmatrix}$

(4) 230

(5) א.  $\begin{pmatrix} 8 & 16 \\ 17 & 6 \\ 7 & 21 \end{pmatrix}$  ב.  $\begin{pmatrix} 2.25 & 1.5 & 0 \\ 1 & 1.25 & 1.75 \end{pmatrix}$

(6)  $\begin{pmatrix} 8 & 17 & 13 \\ -8 & -2 & -10 \end{pmatrix}$

(7) 63

(8)  $\begin{pmatrix} -32 & 82 & -22 \\ 48 & 87 & 75 \\ -48 & 108 & -36 \end{pmatrix}$

(9) שאלת הוכחה.

(10)  $A = \begin{pmatrix} a & -\frac{a^2+4}{c} \\ c & -a \end{pmatrix}$

(11) שאלת הוכחה.

(12) שאלת הוכחה.

(13) שאלת הוכחה.

(14) שאלת הוכחה.

(15) א+ב. שאלת הוכחה.

$$(A+I)^n = \binom{n}{0}A^n + \binom{n}{1}A^{n-1} + \binom{n}{2}A^{n-2} + \dots + \binom{n}{n-1}A^1 + \binom{n}{n}I$$

$$(A-I)^n = \binom{n}{0}A^n - \binom{n}{1}A^{n-1} + \binom{n}{2}A^{n-2} - \dots + (-1)^{n+1} \binom{n}{n-1}A^1 + (-1)^n \binom{n}{n}I$$

(16) שאלת הוכחה.

$$A = \begin{pmatrix} 1 & 1 & 1 & 1 & 1 & \dots & 1 \\ 1 & 2 & 2 & 2 & 2 & \dots & 2 \\ 1 & 2 & 3 & 3 & 3 & \dots & 3 \\ 1 & 2 & 3 & 4 & 4 & \dots & 4 \\ 1 & 2 & 3 & 4 & 5 & \dots & 5 \\ \vdots & \vdots & \vdots & \vdots & \vdots & \ddots & \vdots \\ 1 & 2 & 3 & 4 & 5 & \dots & n \end{pmatrix} \quad B = \begin{pmatrix} 0 & 0 & 0 & 0 & 0 & 0 & 1 \\ 0 & 0 & 0 & 0 & 0 & \ddots & 0 \\ 0 & 0 & 0 & 0 & 1 & 0 & 0 \\ 0 & 0 & 0 & 1 & 0 & 0 & 0 \\ 0 & 0 & 1 & 0 & 0 & 0 & 0 \\ 0 & 1 & 0 & 0 & 0 & 0 & 0 \\ 1 & 0 & 0 & 0 & 0 & 0 & 0 \end{pmatrix} \quad \text{א. (17)}$$

$$C = \begin{pmatrix} 1 & \dots & 1 & 1 & 1 & 1 & 1 \\ 2 & \dots & 2 & 2 & 2 & 2 & 1 \\ 3 & \dots & 3 & 3 & 3 & 2 & 1 \\ 4 & \dots & 4 & 4 & 3 & 2 & 1 \\ 5 & \dots & 5 & 4 & 3 & 2 & 1 \\ \vdots & \ddots & \vdots & \vdots & \vdots & \vdots & \vdots \\ n & \dots & 5 & 4 & 3 & 2 & 1 \end{pmatrix} \quad \text{ב. } c_{ij} = \min\{i, n+1-j\}$$

$$A = \begin{pmatrix} -1 & 1 \\ 1 & 1 \end{pmatrix} \quad \text{(18)}$$

## מטריצות סימטריות ומטריצות אנטי-סימטריות

### שאלות

מטריצה ריבועית  $A$  תיקרא סימטרית אם  $A^T = A$ , ואנטי-סימטרית אם  $A^T = -A$ .

(1) ידוע ש- $A$  מטריצה ריבועית.  
מי מבין הבאים נכון (אחד או יותר):

1.  $AA^T$  סימטרית.
2.  $A + A^T$  סימטרית.
3.  $A - A^T$  אנטי-סימטרית.

(2) ידוע ש- $A$  ו- $B$  אנטי-סימטריות מאותו סדר.  
מי מבין הבאים נכון:

1.  $BABABA$  אנטי-סימטרית.
2.  $A^2 - B^2$  סימטרית.
3.  $A^2 + B$  סימטרית.

(3) ידוע ש- $A$  ו- $B$  סימטריות מאותו סדר ונתון כי  $AB = -BA$ .  
מי מבין הבאים נכון:

1.  $AB^3$  אנטי-סימטרית.
2.  $AB^2$  סימטרית.
3.  $(A - B)^2$  סימטרית.

(4) ידוע ש- $A$  סימטרית ו- $B$  אנטי סימטרית מאותו סדר ונתון כי  $AB = BA$ .  
הוכיחו:

1.  $AB$  אנטי-סימטרית.
2.  $AB + B$  אנטי-סימטרית.

(5) נתון:  $A, B, AB$  סימטריות מאותו סדר.

הוכיחו כי  $A^4 B^4 = B^4 A^4$ .

### תשובות סופיות

- (1) 1,2,3
- (2) 2
- (3) 1,2,3
- (4) שאלת הוכחה.
- (5) שאלת הוכחה.

## דרגה של מטריצה

## שאלות

(1) אמתו את המשפט  $\text{rank}(A) = \text{rank}(A^T)$ ,

$$.A = \begin{pmatrix} 1 & 2 & 3 & 4 & 10 \\ 5 & 6 & 7 & 8 & 14 \\ 6 & 8 & 10 & 12 & 24 \\ 3 & 2 & 1 & 0 & -6 \end{pmatrix} \quad \text{על המטריצה}$$

(2) אמתו את המשפט  $\text{rank}(AB) \leq \min\{\text{rank}(A), \text{rank}(B)\}$ ,

$$.A = \begin{pmatrix} 1 & 2 & 3 & 4 \\ 5 & 6 & 7 & 8 \\ 6 & 8 & 10 & 12 \\ 3 & 2 & 1 & 0 \end{pmatrix} \quad B = \begin{pmatrix} 1 & 2 & 3 \\ 4 & 5 & 6 \\ 7 & 8 & 9 \\ 1 & 1 & 1 \end{pmatrix} \quad \text{עבור}$$

$$.A = \begin{pmatrix} 1-k & 0 & 0 & 0 \\ 0 & 1-k & 0 & 0 \\ 0 & 0 & 4-k & 1 \\ 0 & 0 & 0 & 10-k \end{pmatrix} \quad \text{(3) נתונה המטריצה}$$

חשבו את  $\text{rank}(A)$ .

(4) נתון כי  $A$  מטריצה ריבועית מסדר  $n > 1$ . הוכיחו או הפריכו:

א.  $\text{rank}(A) = n-1 \Rightarrow \text{rank}(A^2) = n-1$

ב.  $\text{rank}(A) = n-1 \Leftarrow \text{rank}(A^2) = n-1$

(5) נתון כי  $A, B$  מטריצות ריבועיות מסדר  $n > 1$ . הוכיחו או הפריכו:

א. אם  $\text{rank}(A) = \text{rank}(AB)$ , אז בהכרח  $B$  הפיכה.

ב. ייתכן ש- $\text{rank}(A) < \text{rank}(AB)$ .

ג. אם  $\text{rank}(A) > \text{rank}(B)$ , אז  $\text{rank}(AB) > \text{rank}(B)$ .

$$(6) \text{ נתון } A = \begin{pmatrix} 1 & -2 & 3 \\ 0 & 0 & -1 \\ 0 & 0 & 4 \end{pmatrix}, B = \begin{pmatrix} 1 & 2 & 3 \\ 0 & 4 & 5 \\ 0 & 0 & 1 \end{pmatrix}$$

א. חשבו את  $\text{rank}(A)$ ,  $\text{rank}(B)$ .

ב. חשבו את  $\text{rank}(B^{10}A^{14})$ .

(7) נניח כי  $A, B$  שתי מטריצות ריבועיות מסדר  $n$ .

הוכיחו כי  $\text{rank} \begin{pmatrix} A & A \\ A & B \end{pmatrix} \leq 2\text{rank}(A) + \text{rank}(B)$ .

(8) תהי  $A_{8 \times 7}$  מטריצה, כך ש- $\text{rank}(A) = 3$ .

הוכיחו כי קיימות 3 מטריצות  $A_1, A_2, A_3$ , שלכל אחת מהן דרגה 1,

כך ש- $A = A_1 + A_2 + A_3$ .

הראו כי לא ניתן לקבל זאת עם פחות מ-3 מטריצות.

הכלילו את תוצאת התרגיל למטריצה מסדר  $m \times n$  שדרגתה  $k$ .

(9) נתונות שתי מטריצות  $A_{3 \times 5}, B_{5 \times 3}$ .

הוכיחו או הפריכו את הטענות הבאות:

א.  $\text{rank}(AB) = \text{rank}(BA)$ .

ב.  $\text{rank}(AB) \neq \text{rank}(BA)$ .

ג. המטריצה  $BA$  לא הפיכה.

(10) תהי  $A$  מטריצה מסדר  $m \times n$ , ותהי  $B$  מטריצה מסדר  $n \times m$ . הוכיחו:

א. אם  $AB = I_m$  אז  $\text{rank}(A) = \text{rank}(B) = m$ .

ב. אם  $BA = I_n$  אז  $\text{rank}(A) = \text{rank}(B) = n$ .

ג. אם  $AB = I_m$  וגם  $BA = I_n$  אז בהכרח  $m = n$ .

ד. אם  $A$  לא ריבועית אז לא ייתכן שגם  $AA^T = I_m$  וגם  $A^T A = I_n$ .

(11) בשדה  $F$  נתונים  $a_1, a_2, \dots, a_m$  איברים, שלא כולם אפס, ו- $b_1, b_2, \dots, b_n$  איברים, שלא כולם אפס.

קבעו מהי דרגתה של המטריצה  $M = (m_{ij})_{\substack{1 \leq i \leq m \\ 1 \leq j \leq n}}$ , כאשר  $m_{ij} = a_i b_j$ .

**12** תהי  $A = (a_{ij})_{1 \leq i, j \leq n}$  מטריצה שהאיברים שלה נתונים על ידי:  $a_{ij} = b_i^2 - b_j^2$ ,

כאשר  $b_1, b_2, \dots, b_n$  מספרים ממשיים שונים ו-  $n \geq 3$ .

א. הוכיחו שהמטריצה לא הפיכה.

ב. האם הטענה תישאר נכונה אם נשנה את הנתון ל-  $n \geq 2$ ?

הוכיחו או הפריכו.

**13** תהיינה  $A, B$  מטריצות מעל  $\mathbb{R}$ , מסדר  $m \times n$ , כך שלכל  $\underline{x} \in \mathbb{R}^n$ ,  $\underline{x} \neq \underline{0}$ ,

מתקיים  $A\underline{x} \neq B\underline{x}$ .

מה הדרגה של המטריצה  $A - B$ ?

**14** תהיינה  $A, B$  מטריצות מסדר  $n \times n$ .

א. נתון שכל פתרון של המערכת  $(AB)\underline{x} = \underline{0}$ , הוא פתרון של המערכת

$$A\underline{x} = \underline{0}$$

הוכיחו שהדרגה של  $AB$  שווה לדרגה של  $A$ .

ב. הוכיחו: אם  $A$  הפיכה, אז  $\rho(AB) = \rho(A)$ .

ג. הוכיחו שאם  $\rho(AB) < \rho(A)$ , אז  $A$  לא הפיכה.

**15** תהי  $A$  מטריצה מסדר  $n \times n$ .

א. הוכיחו כי  $P(A) \subseteq P(A^2)$ .

ב. נתון כי  $\rho(A^2) < \rho(A)$ .

הוכיחו שקיים  $v \in \mathbb{R}^n$ , כך ש-  $Av \neq 0$  וגם  $A^2v = 0$ .

### תשובות סופיות

- (1) שאלת הוכחה.
- (2) שאלת הוכחה.
- (3) אם  $k=1$ , אז  $\text{rank}(A)=2$ . אם  $k=4, k=10$ , אז  $\text{rank}(A)=3$ .
- אם  $\text{rank}(A)=4$   $k \neq 1, 4, 10$ .
- (4) א. הטענה אינה נכונה. ב. הטענה נכונה.
- (5) א. הטענה אינה נכונה. ב. הטענה אינה נכונה. ג. הטענה אינה נכונה.
- (6) א.  $\text{rank}(A)=2$ ,  $\text{rank}(B)=3$ . ב.  $\text{rank}(B^{10}A^{14})=2$ .
- (7) שאלת הוכחה.
- (8) שאלת הוכחה.
- (9) שאלת הוכחה.
- (10) שאלת הוכחה.
- (11) 1
- (12) שאלת הוכחה.
- (13)  $n$
- (14) שאלת הוכחה.
- (15) שאלת הוכחה.

## מטריצה אלמנטרית

### שאלות

(1) רשמו את המטריצה  $A = \begin{pmatrix} 1 & 2 \\ 3 & 4 \end{pmatrix}$  כמכפלה של מטריצות אלמנטריות.

(2) רשמו את המטריצה  $A = \begin{pmatrix} 1 & -1 & -1 \\ 3 & -4 & -2 \\ 2 & -3 & -2 \end{pmatrix}$  כמכפלה של מטריצות אלמנטריות.

(3) הוכיחו או הפריכו כל אחד מסעיפים א-ד.  
 נתון כי  $A$  מטריצה ריבועית, ו- $B$  מתקבלת מ- $A$  ע"י סדרת פעולות דירוג.  
 ע"י הפעלת אותה סדרה של פעולות תתקבל גם:

א.  $A^2$  מ- $B^2$ .

ב.  $BA$  מ- $A^2$ .

ג.  $BA$  מ- $B^2$ .

ד.  $AB$  מ- $B^2$ .

(4) תהי  $A \in M_3[R]$ , כך שסכום איברי השורה הראשונה שלה הוא 4, סכום איברי השורה השנייה שלה הוא 1 וסכום איברי השורה השלישית שלה הוא 10.

נגדיר את המטריצות האלמנטריות  $E_1 = \begin{pmatrix} 1 & 0 & 0 \\ 0 & 1 & 0 \\ -4 & 0 & 1 \end{pmatrix}$ ,  $E_2 = \begin{pmatrix} 1 & 0 & 0 \\ 0 & 1 & 0 \\ 0 & 3 & 1 \end{pmatrix}$ .

למה שווה סכום איברי השורה השלישית במטריצה  $E_2 E_1 A$ ?

**פתרו בשתי דרכים:**

**דרך א'** – בעזרת תכונות המטריצה האלמנטרית.

**דרך ב'** – בעזרת כפל מטריצות.

## תשובות סופיות

$$\underbrace{\begin{pmatrix} 1 & 0 \\ 3 & 1 \end{pmatrix}}_{e_1} \underbrace{\begin{pmatrix} 1 & -1 \\ 0 & 1 \end{pmatrix}}_{e_2} \underbrace{\begin{pmatrix} 1 & 0 \\ 0 & -2 \end{pmatrix}}_{e_3} = \underbrace{\begin{pmatrix} 1 & 2 \\ 3 & 4 \end{pmatrix}}_A \quad (1)$$

$$\underbrace{\begin{pmatrix} 1 & 0 & 0 \\ 3 & 1 & 0 \\ 0 & 0 & 1 \end{pmatrix}}_{e_1} \underbrace{\begin{pmatrix} 1 & 0 & 0 \\ 0 & 1 & 0 \\ 2 & 0 & 1 \end{pmatrix}}_{e_2} \underbrace{\begin{pmatrix} 1 & 0 & 0 \\ 0 & 1 & 0 \\ 0 & 1 & 1 \end{pmatrix}}_{e_3} \underbrace{\begin{pmatrix} 1 & 0 & 0 \\ 0 & 1 & -1 \\ 0 & 0 & 1 \end{pmatrix}}_{e_4} \bullet \quad (2)$$

$$\bullet \underbrace{\begin{pmatrix} 1 & 0 & 1 \\ 0 & 1 & 0 \\ 0 & 0 & 1 \end{pmatrix}}_{e_5} \underbrace{\begin{pmatrix} 1 & 1 & 0 \\ 0 & 1 & 0 \\ 0 & 0 & 1 \end{pmatrix}}_{e_6} \underbrace{\begin{pmatrix} 1 & 0 & 0 \\ 0 & -1 & 0 \\ 0 & 0 & 1 \end{pmatrix}}_{e_7} \underbrace{\begin{pmatrix} 1 & 0 & 0 \\ 0 & 1 & 0 \\ 0 & 0 & -1 \end{pmatrix}}_{e_8} = A$$

(3) שאלת הוכחה.

(4) -3

## פירוק LU

### שאלות

$$(1) \text{ רשמו את פירוק LU של המטריצה } A = \begin{pmatrix} 1 & -1 & -1 \\ 3 & -4 & -2 \\ 2 & -3 & -2 \end{pmatrix}$$

$$(2) \text{ רשמו את פירוק LU של המטריצה } A = \begin{pmatrix} 1 & 2 & -3 & 4 \\ 2 & 3 & -8 & 5 \\ 1 & 3 & 1 & 3 \\ 3 & 8 & -1 & 13 \end{pmatrix}$$

$$(3) \text{ רשמו את פירוק LU של המטריצה } A = \begin{pmatrix} 2 & -6 & 6 \\ -4 & 5 & -7 \\ 3 & 5 & -1 \\ -6 & 4 & -8 \\ 8 & -3 & 9 \end{pmatrix}$$

### תשובות סופיות

$$(1) \underbrace{\begin{pmatrix} 1 & -1 & -1 \\ 3 & -4 & -2 \\ 2 & -3 & -2 \end{pmatrix}}_A = \underbrace{\begin{pmatrix} 1 & 0 & 0 \\ 3 & 1 & 0 \\ 2 & 1 & 1 \end{pmatrix}}_L \cdot \underbrace{\begin{pmatrix} 1 & -1 & -1 \\ 0 & -1 & 1 \\ 0 & 0 & -1 \end{pmatrix}}_U$$

$$(2) \underbrace{\begin{pmatrix} 1 & 2 & -3 & 4 \\ 2 & 3 & -8 & 5 \\ 1 & 3 & 1 & 3 \\ 3 & 8 & -1 & 13 \end{pmatrix}}_A = \underbrace{\begin{pmatrix} 1 & 0 & 0 & 0 \\ 2 & 1 & 0 & 0 \\ 1 & -1 & 1 & 0 \\ 3 & -2 & 2 & 1 \end{pmatrix}}_L \cdot \underbrace{\begin{pmatrix} 1 & 2 & -3 & 4 \\ 0 & -1 & -2 & -3 \\ 0 & 0 & 2 & -4 \\ 0 & 0 & 0 & 3 \end{pmatrix}}_U$$

$$(3) \underbrace{\begin{pmatrix} 2 & -6 & 6 \\ -4 & 5 & -7 \\ 3 & 5 & -1 \\ -6 & 4 & -8 \\ 8 & -3 & 9 \end{pmatrix}}_A = \underbrace{\begin{pmatrix} 1 & 0 & 0 & 0 & 0 \\ -2 & 1 & 0 & 0 & 0 \\ \frac{3}{2} & -2 & 1 & 0 & 0 \\ -3 & 2 & 0 & 1 & 0 \\ 4 & -3 & 0 & 0 & 1 \end{pmatrix}}_L \cdot \underbrace{\begin{pmatrix} 2 & -6 & 6 \\ 0 & -7 & 5 \\ 0 & 0 & 0 \\ 0 & 0 & 0 \\ 0 & 0 & 0 \end{pmatrix}}_U$$

## תרגילי תיאוריה מתקדמים

### שאלות

(1) תהיינה  $A, B$  מטריצות ריבועיות ממשיות מסדר  $n \geq 2$ .

- א. אזי בהכרח מתקיים:  $AB = BA$ .
- ב. אם  $A^2 - AB = I_n$  אז בהכרח  $B$  הפיכה.
- ג. אם  $(AB)^{100} = I$  אז בהכרח  $(BA)^{100} = I$ .
- ד. אם  $(AB)^{100} = 0$  אז בהכרח  $(BA)^{101} = 0$ .
- ה. אף תשובה אינה נכונה.

(2) ענו על הסעיפים הבאים:

- א. תהיינה  $A, B$  מטריצות מסדר  $n \times n$ , עבורן  $A^2 + AB$  היא מטריצה היחידה. הוכיחו ש- $AB = BA$ .
- ב. אם נתון בנוסף ש- $B^2 + BA$  היא מטריצת האפס, הוכיחו שגם  $B$  היא מטריצת האפס.

(3) תהיינה  $A, B$  מטריצות כלשהן. אזי בהכרח:

- א. אם המכפלה  $AB$  היא מטריצה ריבועית, אזי  $A, B$  מטריצות ריבועיות.
- ב. אם המכפלה  $AB$  היא מטריצה הפיכה, אזי  $A, B$  מטריצות ריבועיות.
- ג. אם  $A$  מטריצה ריבועית והמכפלה  $AB$  מוגדרת, אזי  $B$  מטריצה ריבועית.
- ד. אם  $A, B$  מטריצות ריבועיות מאותו סדר, וכן  $rank(A) > rank(B)$ , אזי  $rank(AB) > rank(B)$ .
- ה. אף תשובה אינה נכונה.

(4) תהיינה  $A$  ו- $B$  מטריצות ריבועיות מסדר  $n \times n$ , כך ש- $BA = AB$ .  
 א. אם  $A, B$  סימטריות הוכיחו כי  $AB^2$  סימטרית.

ב. נניח כי  $\text{rank} A = n - 1$  ו- $v \neq 0$  הוא וקטור המקיים  $Av = 0$ ,  
 הוכיחו כי  $Bv$  הוא כפולה של  $v$  בסקלר.

(5) תהיינה  $A, B$  מטריצות ריבועיות ממשיות מסדר  $n \geq 2$ .  
 אזי בהכרח מתקיים:

א.  $AB = BA$

ב. אם  $A^2 - AB = I_n$  אז בהכרח  $AB = BA$ .

ג. אם  $(AB)^{100} = I$  אז בהכרח  $(BA)^{100} = I$ .

ד. אם  $(AB)^{100} = 0$  אז בהכרח  $(BA)^{100} = 0$ .

ה. אף תשובה אינה נכונה.

(6)  $A$  מטריצה ריבועית,  $B$  מתקבלת מ- $A$  ע"י סדרת פעולות דירוג (בשורות).  
 ע"י הפעלת אותה סדרה של פעולות תתקבל גם:

א.  $B^2$  מ- $A^2$ .

ב.  $BA$  מ- $A^2$ .

ג.  $B^2$  מ- $BA$ .

ד.  $B^2$  מ- $AB$ .

ה. אף תשובה אינה נכונה.

### תשובות סופיות

- |         |            |       |            |
|---------|------------|-------|------------|
| (1) ג+ד | (2) הוכחה. | (3) ה | (4) הוכחה. |
| (5) ב+ג | (6) ב+ד    |       |            |

## המטריצה ההופכית

### שאלות

בשאלות 1-9 מצאו את ההפוכה של כל מטריצה. בדקו את התשובות על ידי כפל מטריצות מתאים.

$$\begin{array}{lll}
 \begin{pmatrix} 4 & 1.5 \\ 2 & 1 \end{pmatrix} & \text{(3)} & \begin{pmatrix} 5 & 2 \\ 7 & 3 \end{pmatrix} & \text{(2)} & \begin{pmatrix} 1 & 2 \\ 3 & 4 \end{pmatrix} & \text{(1)} \\
 \begin{pmatrix} 2 & -1 & 1 \\ 3 & -2 & 2 \\ 5 & -3 & 4 \end{pmatrix} & \text{(6)} & \begin{pmatrix} 2 & 1 & 1 \\ 0 & 2 & -1 \\ 5 & 2 & 3 \end{pmatrix} & \text{(5)} & \begin{pmatrix} 1 & 0 & 2 \\ 4 & -1 & 8 \\ 2 & 1 & 3 \end{pmatrix} & \text{(4)} \\
 \begin{pmatrix} 1 & 1 & 0 & 1 \\ 4 & 2 & 2 & 3 \\ 2 & -1 & 2 & -1 \\ 4 & 0 & 2 & -2 \end{pmatrix} & \text{(9)} & \begin{pmatrix} 1 & 4 & 2 & 4 \\ 1 & 2 & -1 & 0 \\ 0 & 1 & 1 & 1 \\ 1 & 3 & -1 & -2 \end{pmatrix} & \text{(8)} & \begin{pmatrix} 1 & 0 & 0 & 0 \\ 1 & 2 & 0 & 0 \\ 1 & 2 & 3 & 0 \\ 1 & 2 & 3 & 4 \end{pmatrix} & \text{(7)}
 \end{array}$$

(10) עבור אילו ערכים של הקבוע  $k$  המטריצה  $\begin{pmatrix} 1 & -1 & 1 \\ 5 & -7 & k^2+3 \\ 3 & -1 & k+3 \end{pmatrix}$  הפיכה?

(11) עבור אילו ערכים של הקבוע  $k$  המטריצה  $\begin{pmatrix} 1 & 1 & 1 & 1 & k \\ 1 & 1 & 1 & k & 1 \\ 1 & 1 & k & 1 & 1 \\ 1 & k & 1 & 1 & 1 \\ k & 1 & 1 & 1 & 1 \end{pmatrix}$  איננה הפיכה?

הניחו שהמטריצות בשאלות 12-14 הן הפיכות מסדר  $n$ , וחלצו את  $X$ :

(12) א.  $AXC = D$  ב.  $A^{-1}XC = A^{-1}DC$  ג.  $P^{-1}X^T P = A$

(13) א.  $C^{-1}(A+X)D^{-2} = I$  ב.  $(A-AX)^{-1} = X^{-1}C$

(14)  $ABC^T X^{-1} BA^T C = AB^T$

(15) נתון  $B = \begin{pmatrix} 1 & 2 \\ 4 & 9 \end{pmatrix}$ .

חשבו את  $X$ , אם ידוע כי  $B^2 X (2B)^{-1} = B + I$ .

$$(16) \text{ נתון } B^{-1} = \begin{pmatrix} 1 & 0 & 2 \\ 4 & -1 & 8 \\ 2 & 1 & 3 \end{pmatrix} \text{ חשבו את } Y, \text{ אם ידוע כי } BYB^T = B^{-1} + B.$$

$$(17) \text{ נתון } A^{-1} = \begin{pmatrix} 2 & 3 \\ 4 & 7 \end{pmatrix}$$

$$\text{חשבו את } B, \text{ אם נתון בנוסף כי: } 5A^T B(I+2A)^{-2} = (7A)^{-2}.$$

(18) ענו על הסעיפים הבאים:

א. נתון:  $A$  מטריצה ריבועית המקיימת  $A^2 - 5A - 2I = 0$ .

הוכיחו כי  $A$  הפיכה ובטאו את  $A^{-1}$  במונחי  $A$  ו- $I$ .

ב. נתון:  $A$  מטריצה ריבועית המקיימת  $(A-3I)(A+2I) = 0$ .

הוכיחו כי  $A$  הפיכה ובטאו את  $A^{-1}$  במונחי  $A$  ו- $I$ .

$$(19) \text{ נתון כי } p(x) = x^3 - 4x^2 - 20x + 48, \text{ } A = \begin{pmatrix} -1 & 3 & 0 \\ 3 & -1 & 0 \\ -2 & -2 & 6 \end{pmatrix}$$

א. חשבו את  $p(A)$ .

ב. בעזרת תוצאת סעיף א (ולא בדרך אחרת), הוכיחו ש- $A$  הפיכה, ובטאו את  $A^{-1}$  בעזרת  $A$  ו- $I$  בלבד.

$$(20) \text{ נתון כי } A \text{ מטריצה ריבועית המקיימת } A^4 = 0.$$

א. הוכיחו כי  $A$  לא הפיכה.

ב. הוכיחו כי המטריצה  $I - A$  הפיכה, ומצאו את ההופכית שלה.

$$(21) \text{ נתון כי } \begin{cases} P^{-1}AP = B \\ Q^{-1}BQ = C \end{cases}$$

הוכיחו כי קיימת מטריצה הפיכה  $D$ , כך ש- $D^{-1}AD = C$ .

\* הניחו שכל המטריצות הנתונות ריבועיות, מאותו סדר והפיכות.  
 \*\* לסטודנטים המכירים את המושג **דמיון מטריצות**, ניתן לנסח את השאלה כך:  
 הוכיחו: אם  $A$  דומה ל- $B$  ו- $B$  דומה ל- $C$ , אז  $A$  דומה ל- $C$ .  
 (כלומר יחס הדמיון הוא יחס טרנזיטיבי)

**הערה:** בפרק 3 (דטרמיננטות) תמצאו שאלות נוספות הנוגעות למטריצה ההפוכה.

**(22)** תהיינה  $A, B$  מטריצות ריבועיות ממשיות מסדר  $n \geq 2$ . הוכיחו או הפריכו כל אחת מהטענות הבאות:

- א.  $AB = BA$ .  
 ב. אם  $A^2 - AB = I_n$ , אז בהכרח  $B$  הפיכה.  
 ג. אם  $A^2 - AB = I_n$ , אז בהכרח  $A$  הפיכה.  
 ד. אם  $(AB)^{100} = I$ , אז בהכרח  $(BA)^{100} = I$ .  
 ה. אם  $(AB)^{100} = 0$ , אז בהכרח  $(BA)^{101} = 0$ .

**(23)** תהיינה  $A, B$  מטריצות מסדר  $n \times n$ , עבורן  $A^2 + AB = I$ .

- א. הוכיחו ש- $AB = BA$ .  
 ב. אם נתון בנוסף ש- $B^2 + BA$  היא מטריצת האפס, הוכיחו שגם  $B$  היא מטריצת האפס.

**(24)** תהיינה  $A, B$  מטריצות כלשהן.

הוכיחו או הפריכו את הטענות הבאות:

- א. אם  $AB = I$  אז  $B = A^{-1}$ .  
 ב. אם המכפלה  $AB$  היא מטריצה ריבועית, אזי  $A, B$  מטריצות ריבועיות.  
 ג. אם המכפלה  $AB$  היא מטריצה הפיכה, אזי  $A, B$  מטריצות ריבועיות.  
 ד. המכפלה  $AB$  לא הפיכה.  
 ה. אם  $A$  מטריצה ריבועית והמכפלה  $AB$  מוגדרת, אזי  $B$  מטריצה ריבועית.

**(25)** מטריצה ריבועית  $A$  תיקרא אידמפוטנטית אם  $A^2 = A$ . הוכיחו:

- א. למעט המקרה בו  $A = I$ , מטריצה אידמפוטנטית היא לא הפיכה.  
 ב. אם נחסר מטריצה אידמפוטנטית ממטריצת היחידה נקבל מטריצה אידמפוטנטית.  
 ג. אם  $A$  מטריצה אידמפוטנטית ריבועית מסדר 2, אז  $tr(A) = 1$  או ש- $A$  מטריצה אלכסונית.  
 ד.  $A$  אידמפוטנטית  $\Leftrightarrow A^n = A$ , לכל  $n$  טבעי.

$$(26) \text{ נתונה } M = \begin{pmatrix} a & b & c & d \\ -b & a & -d & c \\ -c & d & a & -b \\ -d & -c & b & a \end{pmatrix} \quad (a, b, c, d \in \mathbb{R})$$

מצאו תנאי על הקבועים  $a, b, c, d$  כך ש- $M$  תהיה הפיכה ומצאו את  $M^{-1}$  במקרה זה.

$$(27) \text{ נתון כי } A = \begin{pmatrix} \alpha_{11} & \alpha_{12} & \alpha_{13} \\ \alpha_{21} & \alpha_{22} & \alpha_{23} \\ \alpha_{31} & \alpha_{32} & \alpha_{33} \end{pmatrix} \text{ הפיכה.}$$

לגבי כל אחת מהמערכות הבאות קבע את מספר הפתרונות של המערכת.

$$\alpha_{11}x + \alpha_{12}y = \alpha_{13}$$

$$\alpha_{21}x + \alpha_{22}y = \alpha_{23} \quad \text{א.}$$

$$\alpha_{31}x + \alpha_{32}y = \alpha_{33}$$

$$\alpha_{11}x + \alpha_{12}y + \alpha_{13}z + w = 0$$

$$\alpha_{21}x + \alpha_{22}y + \alpha_{23}z - 4w = 1 \quad \text{ב.}$$

$$\alpha_{31}x + \alpha_{32}y + \alpha_{33}z + 3w = -4$$

$$\alpha_{11}x + \alpha_{21}y + \alpha_{31}z = 3$$

$$\alpha_{12}x + \alpha_{22}y + \alpha_{32}z = 1 \quad \text{ג.}$$

$$\alpha_{13}x + \alpha_{23}y + \alpha_{33}z = 1$$

(28) תהינה  $A, B$  מטריצות מסדר  $n \times n$ .

הוכיחו:

א. אם  $BA = I - A^2$  וגם  $B^2 = -AB$ , אז  $B = 0$ .

ב. אם  $A^2 = 2I$ , אז  $A + I$  ו- $A - I$  הפיכות.

(29) תהינה  $A, B$  מטריצות מסדר  $n \times n$ , כך ש- $B^2A = -2B^3$  וגם

$$(2) \quad B^3 + AB^2 = 3I$$

הוכיחו ש- $A$  ו- $B$  הפיכות, ובטאו את  $A^{-1}$  ו- $B^{-1}$  באמצעות  $B$ .

(30) תהינה  $A, B$  מטריצות מסדר  $n \times n$ , כך ש- $BA + 2I = B$ .

א. הוכיחו ש- $B$  הפיכה.

ב. ידוע ש- $B$  סימטרית.

הוכיחו כי  $A$  סימטרית.

(31) תהי  $A$  מטריצה נילפוטנטית (כלומר, קיים  $n$  טבעי כך ש- $A^n = 0$ ).

א. הוכיחו כי  $A$  לא הפיכה.

ב. הוכיחו כי  $I - A$  ו- $I + A$  הפיכות.

ג. נגדיר:  $e^A = I + \frac{1}{1!}A + \frac{1}{2!}A^2 + \frac{1}{3!}A^3 + \dots + \frac{1}{n!}A^n + \dots$

הוכיחו: אם  $e^A = I$  אז  $A = 0$ .

**(32)** נתונות שתי מטריצות,  $A$  ו- $B$ , מסדר  $n$ .

סמנו את הטענה שנכונה בהכרח:

- א. ל- $A$  ול- $A^T$  יש אותה צורה מדורגת קנונית.
- ב. אם  $A, B$  מדורגות קנונית, אז  $A+B$  מדורגת קנונית.
- ג. אם  $A, B$  מדורגות קנונית, אז  $A-B$  מדורגת קנונית.
- ד. אם בצורה המדורגת קנונית של  $B$  יש שורת אפסים, אז גם בצורה המדורגת קנונית של  $AB$  יש שורת אפסים.

## תשובות סופיות

$$\begin{pmatrix} 1 & -1.5 \\ -2 & 4 \end{pmatrix} \quad (3)$$

$$\begin{pmatrix} 3 & -2 \\ -7 & 5 \end{pmatrix} \quad (2)$$

$$\begin{pmatrix} 2 & 1 \\ 1.5 & -0.5 \end{pmatrix} \quad (1)$$

$$\begin{pmatrix} 8 & -1 & -3 \\ -5 & 1 & 2 \\ -10 & 1 & 4 \end{pmatrix} \quad (5)$$

$$\begin{pmatrix} -11 & 2 & 2 \\ 4 & -1 & 0 \\ 6 & -1 & -1 \end{pmatrix} \quad (4)$$

$$\begin{pmatrix} 1 & 0 & 0 & 0 \\ -\frac{1}{2} & \frac{1}{2} & 0 & 0 \\ 0 & -\frac{1}{3} & \frac{1}{3} & 0 \\ 0 & 0 & -\frac{1}{4} & \frac{1}{4} \end{pmatrix} \quad (7)$$

$$\begin{pmatrix} 2 & -1 & 0 \\ 2 & -3 & 1 \\ -1 & -1 & 1 \end{pmatrix} \quad (6)$$

$$\begin{pmatrix} 7 & -2 & 3 & -1 \\ -10 & 3 & -5 & 2 \\ -10 & 3 & -4 & 1.5 \\ 4 & -1 & 2 & -1 \end{pmatrix} \quad (9)$$

$$\begin{pmatrix} 7 & -10 & -20 & 4 \\ -2 & 3 & 6 & -1 \\ 3 & -5 & -8 & 2 \\ -1 & 2 & 3 & -1 \end{pmatrix} \quad (8)$$

$$k=1, k=-4 \quad (11)$$

$$k \neq 1, k \neq -2 \quad (10)$$

$$(P^{-1})^T A^T P^T \quad \text{ג.} \quad D \quad \text{ב.} \quad A^{-1}DC^{-1} \quad \text{א.} \quad (12)$$

$$(A+C^{-1})^{-1}A \quad \text{ג.} \quad A \quad \text{ב.} \quad CD^2 - A \quad \text{א.} \quad (13)$$

$$X = 4 \begin{pmatrix} 5 & -1 \\ -2 & 1 \end{pmatrix} \quad (15)$$

$$BA^T C(B^{-1})^T BC^T \quad (14)$$

$$B = \frac{1}{245} \begin{pmatrix} 264 & 450 \\ 448 & 768 \end{pmatrix} \quad (17)$$

$$Y = \begin{pmatrix} 22 & 86 & 38 \\ 64 & 246 & 114 \\ 60 & 238 & 100 \end{pmatrix} \quad (16)$$

$$A^{-1} = \frac{1}{6}A - \frac{1}{6}I \quad \text{ג.} \quad A^{-1} = 0.5A - 2.5I \quad \text{א.} \quad (18)$$

$$A^{-1} = 0.5A - 2.5I \quad \text{א.} \quad (18)$$

$$B^{-1} = -\frac{1}{48}B^2 + \frac{1}{12}B + \frac{5}{12}I \quad \text{ג.} \quad B^{-1} = -\frac{1}{48}B^2 + \frac{1}{12}B + \frac{5}{12}I \quad \text{ב.} \quad (19)$$

$$f(B) = \begin{pmatrix} 0 & 0 & 0 \\ 0 & 0 & 0 \\ 0 & 0 & 0 \end{pmatrix} \quad \text{א.} \quad (19)$$

$$(I-A)^{-1} = I + A + A^2 + A^3 \quad \text{ג.} \quad (I-A)^{-1} = I + A + A^2 + A^3 \quad \text{ב.} \quad (20)$$

$$\text{א. שאלת הוכחה.} \quad (20)$$

$$\text{שאלת הוכחה.} \quad (21)$$

$$\text{שאלת הוכחה.} \quad (22)$$

$$\text{שאלת הוכחה.} \quad (23)$$

$$\text{שאלת הוכחה.} \quad (24)$$

$$\text{שאלת הוכחה.} \quad (25)$$

$$((a,b,c,d) \neq (0,0,0,0)) \quad M^{-1} = \frac{1}{(a^2+b^2+c^2+d^2)} M^T \quad (26)$$

- 27) א. אין פתרון. ב. אינסוף פתרונות. ג. פתרון יחיד.  
28) שאלת הוכחה.  
29) שאלת הוכחה.  
30) שאלת הוכחה.  
31) שאלת הוכחה.  
32) ד

## בחזרה למערכת משוואות ליניארית

### שאלות

1) בסעיפים הבאים מצאו מטריצות  $A$ ,  $\underline{x}$  ו- $\underline{b}$ , המבטאות את מערכת המשוואות הנתונה ע"י המשוואה היחידה  $A\underline{x} = \underline{b}$ :

$$2x - 3y + z + t = 1$$

$$4x + y + 2z = 4$$

$$y + z + t = 1$$

$$x - 4z - 2y = 10$$

$$2x + y - z = 3$$

$$x + 2y - 4z = 5$$

$$6x + 4y + z = 2$$

בשאלות 2-6 נתון כי  $\underline{b} = \begin{pmatrix} 1 \\ 2 \\ 3 \end{pmatrix}$ ,  $\underline{x} = \begin{pmatrix} x \\ y \\ z \end{pmatrix}$  ו- $A = \begin{pmatrix} 4 & -2 & 4 \\ 1 & -1 & 1 \\ 1 & -6 & 3 \end{pmatrix}$ .

בטאו כל אחת מהמשוואות בשאלות אלה כמערכת משוואות ליניאריות:

$$A\underline{x} = -k\underline{x} + \underline{b} \quad (4)$$

$$A\underline{x} = 4\underline{x} + \underline{b} \quad (3)$$

$$A\underline{x} = \underline{b} \quad (2)$$

$$A^T \underline{x} = 2\underline{x} + 3\underline{b} \quad (6)$$

$$A\underline{x} = \underline{x} \quad (5)$$

$$2x - y + z = 3$$

7) פתרו את מערכת המשוואות  $3x - 2y + 2z = 5$ ,

$$5x - 3y + 4z = 11$$

בעזרת המטריצה ההפוכה.

$$x + 4y + 2z + 4t = 1$$

$$x + 2y - z = 0$$

$$y + z + t = 1$$

$$x + 3y - z - 2t = 0$$

8) פתרו את מערכת המשוואות

בעזרת המטריצה ההפוכה.

9) למערכת משוואות מסוימת יש את שני הפתרונות הבאים:

$$(x, y, z) = (2, -8, 4), \quad (x, y, z) = (-1, 4, -2)$$

הוכיחו שהמערכת חייבת להיות הומוגנית.

**10** למערכת משוואות לא הומוגנית יש את שני הפתרונות הבאים :  
 $(x, y, z) = (2, 3, 4)$  ,  $(x, y, z) = (-1, 4, -2)$   
 מצאו פתרון לא טריוויאלי כלשהו של המערכת ההומוגנית המתאימה.

$$(11) \text{ נתונה המערכת } \begin{cases} x + y - z = 1 \\ 3x - 7y + (k^2 + 1)z = k^2 - 1 \\ 4x - 6y + (k + 2)z = 4 \end{cases}$$

מצאו עבור אילו ערכים של הקבוע  $k$ , למערכת :  
 א. פתרון יחיד. ב. אין פתרון. ג. אינסוף פתרונות.

\* השתמשו בפתרון במושג 'דרגה של מטריצה'.

$$(12) \text{ נתון } A = \begin{pmatrix} 1 & 1 & 2 & 3 \\ 2 & 0 & 1 & 2 \\ 5 & 8 & 4 & 2 \\ 0 & -5 & 3 & k \end{pmatrix}, b = \begin{pmatrix} 1 \\ 2 \\ 0 \\ m \end{pmatrix}$$

ידוע כי  $\text{rank}(A) = 3$ , וידוע כי למערכת  $Ax = b$  יש פתרון.  
 מצאו את הקבועים  $k, m$ .

**13** נתונה מטריצה ריבועית  $A$ , המקיימת את התכונה הבאה :  
 סכום האיברים בכל שורה של המטריצה  $A$  שווה 0.  
 הוכיחו ש- $A$  מטריצה לא הפיכה.

**14** נתונה מטריצה ריבועית הפיכה  $A$ , המקיימת את התכונה הבאה :  
 סכום האיברים בכל שורה של המטריצה  $A$  שווה  $k$ .  
 הוכיחו שסכום האיברים בכל שורה של המטריצה הוא קבוע.  
 בטאו קבוע זה בעזרת  $k$ .

$$(15) \text{ מטריצה } A \text{ מקיימת } A \begin{pmatrix} 1 & 2 & 3 \\ 4 & 5 & 6 \\ 7 & 8 & 9 \end{pmatrix} = 0$$

הוכיחו כי הווקטור  $\begin{pmatrix} 6 \\ 15 \\ 24 \end{pmatrix}$  הוא פתרון של המערכת ההומוגנית  $Ax = 0$ .

- 16** יהיו  $A, B$  מטריצות ממשיות מסדר  $n \times n$ .
- עבור כל אחת מהטענות הבאות קבעו האם היא נכונה או לא.
- א. אם למערכת  $(AB)x = 0$  קיימים שני פתרונות שונים, אז בהכרח  $A$  לא הפיכה.
- ב. אם קיים פתרון שונה מ-0 למערכת  $(AB)x = 0$ , אז למערכת  $(BA)x = 0$  קיים פתרון שונה מ-0.
- ג. אם למערכת  $Ax = 0$  קיים פתרון יחיד, אז ייתכן ש- $A^2 = 0$ .
- ד. אם למערכת  $(A^t A)x = 0$  קיים פתרון יחיד, אז  $A$  לא הפיכה.
- ה. אם קיים פתרון שונה מ-0 למערכת ההומוגנית  $(AB)x = 0$ , אז למערכת ההומוגנית  $Ax = 0$  קיים פתרון שונה מ-0.

- 17** נתונה מערכת משוואות מעל  $\mathbb{R}$ :  $Ax = d$  ( $d \neq 0$ ).
- נתון כי  $A$  מטריצה ריבועית מסדר 4, המקיימת  $\text{rank}(A) = 2$ .
- ידוע כי הווקטורים הבאים פותרים את המערכת הנתונה:
- $$u = (x_1, x_2, 6, 7), \quad v = (y_1, y_2, 1, 2), \quad w = (z_1, z_2, 4, 3)$$
- מי מבין הבאים הוא הפתרון הכללי של המערכת הנתונה:
- א.  $x = au + bv + cw$
- ב.  $x = (a + b + 1)u - av - bw$
- ג.  $x = au + bv + w$
- ד.  $x = (a - b)u + (b - c)v + (c - a)w$
- ה.  $x = (a + b)u - (av + bw + u)$ , כאשר  $a, b, c \in \mathbb{R}$ .

- הערה:** בחלקו האחרון של פתרון תרגיל זה נדרש הידע הבא מהפרק מרחבים וקטורים:
- בהינתן מערכת הומוגנית  $Ax = 0$ :
- אוסף כל הפתרונות של המערכת נקרא מרחב הפתרונות של המערכת.
  - מספר המשתנים החופשיים במערכת לאחר דירוג נקרא המימד של מרחב הפתרונות.
- בכל אופן, מומלץ לחזור לתרגיל זה אחרי שתעברו על הפרק מרחבים וקטורים.

- 18** נתונה מערכת  $A_{m \times n} \cdot x = b$ .
- הוכיחו או הפריכו:
- א. אם  $u$  וגם  $\lambda u$  ( $\lambda \neq 1$ ) פתרונות של המערכת אז המערכת הומוגנית.
- ב. אם  $u$  ו- $v$  וגם  $\alpha u + \beta v$  ( $\alpha, \beta \neq 0$ ) פתרונות של המערכת אז היא הומוגנית.
- ג. אם הווקטורים  $(1, 2, \dots, n)$ ,  $(n, \dots, 2, 1)$  פותרים את המערכת והווקטור  $(n+1, \dots, n+1)$  לא פותר את המערכת, אז המערכת לא הומוגנית.

**19** תהי  $A$  מטריצה כך שלמערכת  $Ax=0$  פתרון יחיד. הוכיחו או הפריכו:

- $A$  הפיכה.
- למערכת ההומוגנית עם מטריצת מקדמים  $A^T$  פתרון יחיד.
- לכל מערכת לא הומוגנית עם מטריצת מקדמים  $A$  פתרון יחיד.

**20** תהי  $A_{m \times n}$  מטריצה ממשית כך ש- $m < n$ . הוכיחו או הפריכו:

- ממד מרחב הפתרונות של המערכת  $Ax=0$  הוא  $n-m$ .
- למערכת  $(A^T A)x=0$  יש אינסוף פתרונות.
- ייתכן מצב בו למערכת  $(A^T A)x=0$  יש פתרון יחיד.
- ייתכן מצב בו למערכת  $(AA^T)x=0$  יש פתרון יחיד.

**21** תהי  $A$  מטריצה ריבועית מסדר  $n$ , כך שלכל מטריצה ריבועית  $B \neq 0$  מסדר  $n$ , מתקיים  $AB \neq 0$ . הוכיחו ש- $\text{rank}(A) = n$ .

**22** תהי  $A$  מטריצה ממשית מסדר  $m \times n$ .

לגבי כל אחת מהטענות הבאות, קבעו אם היא נכונה או לא. נמקו.

- אם למערכת  $Ax=b$  יש פתרון לכל  $b \in \mathbb{R}^m$ , אז בהכרח למערכת  $A^T x=b$  יש פתרון לכל  $b \in \mathbb{R}^m$ .
- עבור  $m=n$ , אם למערכת  $Ax=b$  יש פתרון לכל  $b \in \mathbb{R}^m$ , אז בהכרח למערכת  $A^T x=b$  יש פתרון לכל  $b \in \mathbb{R}^m$ .
- אם למערכת ההומוגנית  $Ax=0$  יש אינסוף פתרונות, אז בהכרח  $m < n$ .
- ייתכן ש- $A^T A = I_n$  וגם  $AA^T = I_m$ .
- אם  $m \neq n$  ואם למערכת  $Ax=0$  יש פתרון יחיד, אז יש מערכת לא הומוגנית  $Ax=b$  עם יותר מפתרון אחד.

**23** תהא  $A \in M_{4 \times 4}(R)$  ויהי  $b \in R^4$ .

ידוע כי  $u$  ו- $v$  פתרונות של המערכת הלא הומוגנית  $Ax=b$ .

- נגדיר  $w = \alpha u + \beta v$ .
- הוכיחו כי אם גם  $w$  פתרון של המערכת  $Ax=b$ , אז  $\alpha + \beta = 1$ .
- נניח בנוסף כי  $w = -u + 2v$  הוא פתרון של המערכת  $A^2 x = b$ .
- הוכיחו כי  $A-I$  לא הפיכה.

$$(24) \text{ נתון } A = \begin{pmatrix} 1 & 2 & 0 & 2 & 3 \\ 2 & 4 & 1 & 3 & 6 \\ -3 & -6 & 3 & -8 & -8 \end{pmatrix}, \text{ ויהי } b = \begin{pmatrix} 1 \\ 4 \\ 3 \end{pmatrix}$$

א. הראו כי  $v = (2, -1, 1, -1, 1)^T$  הוא פתרון של המערכת  $Ax = b$ .

ב. מצאו את קבוצת הפתרונות של המערכת ההומוגנית  $Ax = 0$ .

ג. מצאו  $C, D \in M_{5 \times 2}(\mathbb{R})$ , כך ש- $C \neq D$  ו- $AC = AD = \begin{pmatrix} 1 & -1 \\ 4 & -4 \\ 3 & -3 \end{pmatrix}$ .

## תשובות סופיות

$$A = \begin{pmatrix} 2 & 1 & -1 \\ 1 & 2 & -4 \\ 4 & 4 & 1 \end{pmatrix} \quad \underline{x} = \begin{pmatrix} x \\ y \\ z \end{pmatrix} \quad \underline{b} = \begin{pmatrix} 3 \\ 5 \\ 2 \end{pmatrix} \quad \text{א. (1)}$$

$$A = \begin{pmatrix} 2 & -3 & 1 & 1 \\ 4 & 1 & 2 & 0 \\ 0 & 1 & 1 & 1 \\ 1 & -2 & -4 & 0 \end{pmatrix} \quad \underline{x} = \begin{pmatrix} x \\ y \\ z \\ t \end{pmatrix} \quad \underline{b} = \begin{pmatrix} 1 \\ 4 \\ 1 \\ 10 \end{pmatrix} \quad \text{ב.}$$

$$4x - 2y + 4z = 1$$

$$x - y + z = 2 \quad \text{(2)}$$

$$x - 6y + 3z = 3$$

$$-2y + 4z = 1$$

$$x - 5y + z = 2 \quad \text{(3)}$$

$$x - 6y - z = 3$$

$$(4+k)x - 2y + 4z = 1$$

$$x + (k-1)y + z = 2 \quad \text{(4)}$$

$$x - 6y + (3+k)z = 3$$

$$3x - 2y + 4z = 0$$

$$x - 2y + z = 0 \quad \text{(5)}$$

$$x - 6y + 2z = 0$$

$$2x + y + z = 3$$

$$-2x - 3y - 6z = 6 \quad \text{(6)}$$

$$4x + y + z = 9$$

$$(x, y, z) = (1, 2, 3) \quad \text{(7)}$$

$$(x, y, z, t) = (-13, 4, -5, 2) \quad \text{(8)}$$

(9) שאלת הוכחה.

$$\begin{pmatrix} x \\ y \\ z \end{pmatrix} = \begin{pmatrix} -3 \\ 1 \\ -6 \end{pmatrix} \quad \text{(10)}$$

(11) אם  $k \neq 2$  או  $k \neq -1$ , אז יש פתרון אחד.

אם  $k = 2$ , אז יש אינסוף פתרונות.

אם  $k = -1$ , אז אין פתרונות.

$$m = 5, k = 9 \quad \text{(12)}$$

(13) שאלת הוכחה.

14) סכום האיברים בכל שורה של  $A^{-1}$  הוא קבוע השווה ל-  $\frac{1}{k}$ .

15) שאלת הוכחה.

16) שאלת הוכחה.

17) שאלת הוכחה.

18) שאלת הוכחה.

19) שאלת הוכחה.

20) שאלת הוכחה.

21) שאלת הוכחה.

22) שאלת הוכחה.

23) שאלת הוכחה.

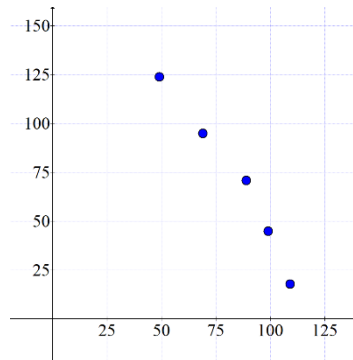
24) א. שאלת הוכחה. ב.  $(x_1, x_2, x_3, x_4, x_5) = (-t, -2s, s, -t, -t, t)$ .

$$C = \begin{pmatrix} 2 & -2 \\ -1 & 1 \\ 1 & -1 \\ -1 & 1 \\ 1 & -1 \end{pmatrix} (t=s=0) \quad D = \begin{pmatrix} -1 & 1 \\ 0 & 0 \\ 0 & 0 \\ -2 & 2 \\ 2 & -2 \end{pmatrix} (t=s=1) \text{ ג.}$$

## שיטת הריבועים הפחותים – רגרסיה לינארית

## שאלות

- 1) נתונות חמש נקודות במישור:  $(-4, -1)$ ,  $(-2, 0)$ ,  $(2, 4)$ ,  $(4, 5)$ ,  $(5, 6)$ . מצאו את הישר הקרוב ביותר לנקודות הללו במובן הריבועים הפחותים.
- 2) בטבלה הבאה הביקוש של מוצר מסוים ביחס למחיר שלו בתקופה של חודש.



$price(x)$	$Demand / sales(y)$
49\$	124
69\$	95
89\$	71
99\$	45
109\$	18

- א. מצא את הישר כך שסכום ריבועי המרחקים האנכיים בין הישר והנקודות יהיה מינימלי. ישר זה נקרא ישר הרגרסיה.
- ב. בעזרת ישר זה נבא את הביקוש אם המחיר הוא 54\$.
- ג. מה משמעות השיפוע של הישר?
- ד. מצא את השגיאה בחישוב הנ"ל.

## תשובות סופיות

- 1)  $f(x) = 0.8x + 2$
- 2) א.  $f(x) = -1.7x + 211$  ב. 119.2 יחידות. ג. אם נעלה את המחיר של המוצר ב-1\$ נצפה לירידה במכירות של 1.7 יחידות בחודש. ד. 14.41

# מתמטיקה לחשבונאים ב

פרק 11 - דטרמיננטות

תוכן העניינים

1. חישוב דטרמיננטה לפי הגדרה ולפי דירוג..... 80
2. חישוב דטרמיננטה כללית מסדר n..... 85
3. חישוב דטרמיננטה לפי חוקי דטרמיננטות..... 90
4. כלל קרמר ופתרון מערכת משוואות..... 92
5. מטריצה צמודה קלאסית ומטריצה הפוכה..... 93
6. שימושי הדטרמיננטה..... 98
7. תרגילי תיאוריה מתקדמים..... 99

## חישוב דטרמיננטה לפי הגדרה ולפי דירוג

## שאלות

בשאלות 1-5 חשבו את הדטרמיננטה על ידי הורדת סדר (פיתוח לפי שורה/עמודה):

$$(1) \quad \text{א.} \begin{vmatrix} a & b \\ c & d \end{vmatrix} \quad \text{ב.} \begin{vmatrix} 5 & 2 \\ -7 & 3 \end{vmatrix} \quad \text{ג.} \begin{vmatrix} 4 & -1.5 \\ 2 & -1 \end{vmatrix}$$

$$(2) \quad \text{א.} \begin{vmatrix} 1 & 0 & 2 \\ 4 & 1 & 8 \\ 2 & 0 & 3 \end{vmatrix} \quad \text{ב.} \begin{vmatrix} 2 & 1 & 1 \\ 0 & 2 & -1 \\ 1 & 0 & 0 \end{vmatrix} \quad \text{ג.} \begin{vmatrix} 2 & 1 & 1 \\ 3 & -2 & 5 \\ 0 & 2 & 0 \end{vmatrix}$$

$$(3) \quad \text{א.} \begin{vmatrix} 1 & 0 & 0 & 0 \\ 1 & 2 & 0 & 0 \\ 1 & 2 & 3 & 0 \\ 1 & 2 & 3 & 4 \end{vmatrix} \quad \text{ב.} \begin{vmatrix} 1 & 0 & 2 & 5 \\ -2 & 0 & -6 & 0 \\ 5 & 3 & -7 & 4 \\ 2 & 0 & 5 & 44 \end{vmatrix} \quad \text{ג.} \begin{vmatrix} 4 & 0 & 0 & 5 \\ 1 & 7 & 2 & 4 \\ 4 & 0 & 0 & 0 \\ 1 & 4 & -1 & 1 \end{vmatrix}$$

$$(4) \quad \begin{vmatrix} 1 & 9 & 8 & 3 & 4 \\ 3 & 0 & -5 & 0 & 2 \\ 2 & -4 & 1 & 0 & 3 \\ 4 & 1 & 7 & 0 & 2 \\ 0 & 0 & 1 & 0 & 0 \end{vmatrix}$$

$$(5) \quad \begin{vmatrix} 4 & 0 & 7 & 5 & 0 \\ 0 & 0 & 3 & 0 & 0 \\ -7 & 2 & 1 & 5 & 9 \\ 3 & 0 & 4 & 2 & -1 \\ -5 & 0 & -8 & -3 & 2 \end{vmatrix}$$

בשאלות 6-7 חשבו את הדטרמיננטה של המטריצות על ידי דירוג.

$$(6) \quad \text{א.} \begin{vmatrix} 1 & 3 & 0 & 2 \\ -2 & -5 & 7 & 4 \\ 3 & 5 & 2 & 1 \\ 2 & 2 & 2 & -1 \end{vmatrix} \quad \text{ב.} \begin{vmatrix} 1 & 3 & 3 & -4 \\ 0 & 1 & 2 & -5 \\ 2 & 5 & 4 & -3 \\ -1 & -2 & -1 & -1 \end{vmatrix} \quad \text{ג.} \begin{vmatrix} 1 & -1 & -3 & 0 \\ 1 & 0 & 2 & 4 \\ -1 & 2 & 8 & 5 \\ 3 & -1 & -2 & 3 \end{vmatrix}$$

$$\begin{array}{l} \left| \begin{array}{ccccc} 1 & 2 & -1 & 0 & -2 \\ 3 & 4 & -5 & -1 & -8 \\ 0 & 0 & 2 & 3 & 9 \\ 0 & 0 & -3 & 1 & 0 \\ 0 & 0 & 5 & 2 & 7 \end{array} \right| \text{ ב.} \\ \left| \begin{array}{ccccc} 1 & 3 & -1 & 0 & -2 \\ 1 & 5 & -5 & -1 & -8 \\ -2 & -6 & 2 & 3 & 9 \\ 3 & 7 & -3 & 8 & -7 \\ 3 & 5 & 5 & 2 & 7 \end{array} \right| \text{ א. (7)} \\ \left| \begin{array}{ccccc} 1 & 3 & -1 & 0 & -2 \\ 1 & 5 & -5 & -1 & -8 \\ 0 & 0 & 2 & 3 & 9 \\ 0 & 0 & 0 & 4 & 1 \\ 0 & 0 & 0 & 2 & 7 \end{array} \right| \text{ ג.} \end{array}$$

בשאלות 8-10 חשבו את הדטרמיננטה על ידי שילוב של הורדת סדר ודירוג:

$$\left| \begin{array}{cccc} 2 & 5 & -3 & -1 \\ 3 & 0 & 1 & -3 \\ -6 & 0 & -4 & 9 \\ 6 & 15 & -7 & -2 \end{array} \right| \quad (8)$$

$$\left| \begin{array}{cccc} -1 & 2 & 3 & 0 \\ 3 & 4 & 3 & 0 \\ 5 & 4 & 6 & 6 \\ 3 & 4 & 7 & 3 \end{array} \right| \quad (9)$$

$$\left| \begin{array}{cccc} 2 & 5 & 4 & 1 \\ 6 & 12 & 10 & 3 \\ 6 & -2 & -4 & 0 \\ -6 & 7 & 7 & 0 \end{array} \right| \quad (10)$$

בשאלות 11-12 הראו, ללא חישוב, שהדטרמיננטה של המטריצות שווה אפס:

$$\left| \begin{array}{ccc} 12 & 15 & 18 \\ 13 & 16 & 19 \\ 14 & 17 & 20 \end{array} \right| \text{ ג.} \quad \left| \begin{array}{ccc} 1 & 2 & 3 \\ 4 & 5 & 6 \\ 5 & 7 & 9 \end{array} \right| \text{ ב.} \quad \left| \begin{array}{ccc} 1 & 0 & 2 \\ 7 & 0 & 12 \\ 3 & 0 & 2 \end{array} \right| \text{ א. (11)}$$

$$\begin{vmatrix} a & a+x & a+y \\ b & b+x & b+y \\ c & c+x & c+y \end{vmatrix} \cdot \text{ב.} \quad \begin{vmatrix} y+z & z+x & y+x \\ x & y & z \\ 1 & 1 & 1 \end{vmatrix} \cdot \text{א. (12)}$$

$$\begin{vmatrix} 3 & -1 & 4 & 5 & 0 & 1 & -12 \\ -14 & 4 & 1 & -4 & 1 & 8 & 4 \\ 3 & 5 & -2 & 0 & -4 & 1 & -3 \\ -4 & 2 & 1 & 1 & 0 & 6 & -6 \\ -21 & 2 & 3 & 4 & 5 & 6 & 1 \\ 2 & -5 & 7 & -4 & 2.5 & -1 & -1.5 \\ -11 & 2 & -6 & 9 & -1 & 3 & 4 \end{vmatrix} \cdot \text{ד.} \quad \begin{vmatrix} \sin^2 x & \cos^2 x & 1 \\ \sin^2 y & \cos^2 y & 1 \\ \sin^2 z & \cos^2 z & 1 \end{vmatrix} \cdot \text{ג.}$$

$$\begin{vmatrix} a & b & c \\ d & e & f \\ g & h & i \end{vmatrix} = 4 \quad \text{בשאלות 13-15 נתון כי:}$$

חשבו:

$$\begin{vmatrix} a & g+d & 2d \\ b & h+e & 2e \\ c & i+f & 2f \end{vmatrix} \quad (13)$$

$$\begin{vmatrix} 2a-3d & 2d & g+4a \\ 2b-3e & 2e & h+4b \\ 2c-3f & 2f & i+4c \end{vmatrix} \quad (14)$$

$$\begin{vmatrix} 0 & g+3d & 3a & a+3d \\ 0 & h+3e & 3b & b+3e \\ 0 & i+3f & 3c & c+3f \\ 1 & 0 & 0 & 0 \end{vmatrix} \quad (15)$$

$$\begin{vmatrix} 1 & a & a^2 \\ 1 & b & b^2 \\ 1 & c & c^2 \end{vmatrix} = (b-a)(c-a)(c-b) \quad \text{(16) הוכיחו כי:}$$

$$\begin{vmatrix} 1 & x & x^2 & x^3 \\ 1 & y & y^2 & y^3 \\ 1 & z & z^2 & z^3 \\ 1 & t & t^2 & t^3 \end{vmatrix} = (y-x)(z-x)(t-x)(z-y)(t-y)(t-z) \quad \text{(17) הוכיחו כי:}$$

$$\text{det} \begin{vmatrix} 1 & 1 & 1 & 1 & k \\ 1 & 1 & 1 & k & 1 \\ 1 & 1 & k & 1 & 1 \\ 1 & k & 1 & 1 & 1 \\ k & 1 & 1 & 1 & 1 \end{vmatrix} \quad \text{(18) חשבו:}$$

(19) ענו על הסעיפים הבאים:

- א. נתונות שתי מטריצות ריבועיות  $A$  ו- $B$  מסדר  $n$  הנבדלות ביניהן רק בשורה ה- $k$  ( $1 \leq k \leq n$ ).
- תהי  $C$  מטריצה הזוהה למטריצות  $A$  ו- $B$  אך נבדלת מהן בשורה ה- $k$ , שם היא שווה לסכום השורה ה- $k$  של  $A$  והשורה ה- $k$  של  $B$ .
- הוכיחו כי  $|A| + |B| = |C|$ .

$$\text{ב. חשבו:} \quad \begin{vmatrix} a & b & c & d & e \\ f & g & h & i & j \\ k & l & m & n & o \\ p & q & r & s & t \\ 2a+1 & -2b & 1 & x & y \end{vmatrix} + \begin{vmatrix} a & b & c & d & e \\ f & g & h & i & j \\ k & l & m & n & o \\ p & q & r & s & t \\ -a-1 & 3b & c-1 & d-x & e-y \end{vmatrix}$$

## תשובות סופיות

- (1) א.  $ad - bc$     ב. 29    ג. -1
- (2) א. -1    ב. -3    ג. -14
- (3) א. 24    ב. 234    ג. -300
- (4) 9
- (5) 6
- (6) א. 0    ב. 0    ג. 3
- (7) א. 24    ב. 44    ג. 104
- (8) 120
- (9) 114
- (10) 6
- (11) פתרונות באתר: [www.GooL.co.il](http://www.GooL.co.il)
- (12) פתרונות באתר.
- (13) -8
- (14) 16
- (15) 9
- (16) שאלת הוכחה.
- (17) שאלת הוכחה.
- (18)  $(k-1)^4(k+4)$
- (19) א. שאלת הוכחה.    ב. 0

חישוב דטרמיננטה כללית מסדר  $n$ 

## שאלות

(1) ענו על הסעיפים הבאים:

א. חשבו את הדטרמיננטה של המטריצה  $A_{n \times n} = (a_{ij})$  הנתונה ע"י:

$$a_{ij} = \begin{cases} 1 & i = j < n \\ a & 1 \leq i \leq n, j = n \\ a & 1 \leq j \leq n, i = n \\ 0 & \text{else} \end{cases}$$

ב. עבור אילו ערכים של המספרים הממשיים  $a_0, \dots, a_{n-1}$ , המטריצה הבאה

$$A = \begin{pmatrix} 0 & 1 & 0 & \dots & \dots & 0 \\ 0 & 0 & 1 & 0 & \dots & 0 \\ \vdots & & \ddots & \ddots & & \vdots \\ \vdots & & & \ddots & \ddots & \vdots \\ 0 & \dots & \dots & \dots & 0 & 1 \\ a_0 & a_1 & \dots & \dots & \dots & a_{n-1} \end{pmatrix} \quad \text{הפיכה:}$$

(2) חשבו את הדטרמיננטה של המטריצה  $A_{n \times n} = (a_{ij})$  הנתונה על ידי:

$$a_{ij} = \begin{cases} j & i = j + 1 \\ n & i = 1, j = n \\ 0 & \text{else} \end{cases}$$

האם קיים ערך של  $n$  עבורו דרגת המטריצה קטנה מ- $n$ ?

(3) חשבו את  $|A|$  כאשר המטריצה  $A = (a_{ij})$  נתונה על ידי:

$$a_{ij} = \begin{cases} 1 & i = j = 1 \\ 0 & i = j \neq 1 \\ j & i < j \\ -j & i > j \end{cases}$$

(4) חשבו את הדטרמיננטה של המטריצה  $A_{n \times n} = (a_{ij})$  הנתונה ע"י:  $a_{ij} = |i - j|$

(5) חשבו את  $|A|$  כאשר המטריצה  $A = (a_{ij})$  נתונה על ידי:

$$a_{ij} = \begin{cases} a & i = j \\ b & i \neq j \end{cases}$$

(6) חשבו את הדטרמיננטה הבאה מסדר  $n$ , כאשר  $n \geq 1$ :

$$\begin{vmatrix} -1 & 2 & 2 & 2 & \cdots & 2 \\ 4 & -2 & 4 & 4 & \cdots & 4 \\ 6 & 6 & -3 & 6 & \cdots & 6 \\ 8 & 8 & 8 & -4 & \cdots & 8 \\ \vdots & \vdots & \vdots & \vdots & \cdots & \vdots \\ 2n & 2n & 2n & 2n & \cdots & -n \end{vmatrix}$$

(7) חשבו את  $|A|$  כאשר המטריצה  $A = (a_{ij})$  נתונה על ידי:

$$a_{ij} = \min\{i, j\} \quad \text{א.}$$

$$a_{ij} = \max\{i, j\} \quad \text{ב.}$$

(8) המטריצה  $A = (a_{ij})$  נתונה על ידי:

$$a_{ij} = \begin{cases} \min\{3(i-1), 3(j-1)\} & 1 < i, j \leq n \\ 1 & i=1 \text{ or } j=1 \end{cases}$$

חשבו את  $|A|$ .

(9) המטריצה  $A = (a_{ij})$  נתונה על ידי:

$$a_{ij} = \begin{cases} \min\{k(i-1), k(j-1)\} & 1 < i, j \leq n \\ 1 & i=1 \text{ or } j=1 \end{cases}$$

חשבו את  $|A|$  ומצאו עבור אילו ערכים של  $k$  המטריצה הפיכה.

(10) חשבו את הדטרמיננטה הבאה מסדר  $n$ , כאשר  $n \geq 3$ :

$$a_{ij} = \begin{cases} 0 & i = j \\ 1 & 2 \leq i \leq n, j = 1 \\ 1 & 2 \leq j \leq n, i = 1 \\ x & \text{else} \end{cases} \quad \begin{vmatrix} 0 & 1 & 1 & 1 & \cdots & 1 \\ 1 & 0 & x & x & \cdots & x \\ 1 & x & 0 & x & \cdots & x \\ 1 & x & x & 0 & \ddots & \vdots \\ \vdots & \vdots & \vdots & x & \ddots & x \\ 1 & x & x & \cdots & x & 0 \end{vmatrix}$$

(11) תהי  $A = (a_{ij})$  מטריצה שהאיברים שלה נתונים על ידי:

$$a_{ij} = \begin{cases} ij & i \neq j \\ 1+ij & i = j \end{cases}$$

חשבו את  $D_n = |A_{n \times n}|$ .

הערה: נפתור תרגיל זה בדרך אחרת בפרק על ערכים עצמיים ווקטורים עצמיים.

$$(12) \text{ המטריצה } A = (a_{ij}) \text{ נתונה על ידי: } a_{ij} = \begin{cases} a & i = j \\ b & i = j+1 \\ c & j = i+1 \end{cases}$$

א. מצאו נוסחת נסיגה לחישוב  $D_n = |A_{n \times n}|$ .

ב. הניחו כי  $a=3, b=1, c=2$  וחשבו:

1. ביטוי סגור עבור הדטרמיננטה.

2. את הדטרמיננטה עבור  $n=20$ .

(13) נתונה מטריצה  $A_{n \times n}$ .

במטריצה זו מבצעים את פעולות השורה הבאות:  
מחליפים בין השורה הראשונה לשורה האחרונה, בין השורה השנייה לשורה  
הלפני אחרונה וכך הלאה, עד שלא ניתן יותר להחליף שורות.

בסוף התהליך מקבלים מטריצה  $B$ .

חשבו את  $|B|$  במונחי  $|A|$ .

$$(14) \text{ חשבו את } D_n = \begin{vmatrix} 0 & & 1 \\ & \ddots & \\ 1 & & 0 \end{vmatrix}_{n \times n} \text{ כאשר } n \geq 2 \text{ טבעי.}$$

$$d_{ij} = \begin{cases} 1 & i+j = n+1 \\ 0 & \text{else} \end{cases} \text{ הערה:}$$

$$(15) \text{ חשבו את } D_n = \det \begin{pmatrix} 2 & & 1 \\ & \ddots & 2 \\ n & & 2 \end{pmatrix}_{n \times n} \text{ כאשר } n \geq 2 \text{ טבעי.}$$

$$d_{ij} = \begin{cases} i & i+j = n+1 \\ 2 & \text{else} \end{cases} \text{ הערה:}$$

$$(16) \text{ חשבו את } D_n = \det \begin{pmatrix} a & & b \\ & \ddots & b \\ b & & a \end{pmatrix}_{n \times n} \text{ כאשר } n \geq 2 \text{ טבעי.}$$

$$d_{ij} = \begin{cases} b & i+j = n+1 \\ a & \text{else} \end{cases} \text{ הערה:}$$

(17) חשבו את הדטרמיננטה של המטריצה של  $A_{n \times n} = (a_{ij})$  הנתונה ע"י:

$$a_{ij} = \min \{i, n-j+1\}$$

$$\begin{vmatrix}
 a_n & a_{n-1} & \cdots & a_2 & x \\
 a_n & a_{n-1} & \cdots & x & a_1 \\
 a_n & a_{n-1} & \cdots & a_2 & a_1 \\
 \vdots & \vdots & \ddots & \vdots & \vdots \\
 a_n & x & \cdots & a_2 & a_1 \\
 a_n & a_{n-1} & \cdots & a_2 & a_1
 \end{vmatrix}$$

(18) חשבו את הדטרמיננטה הבאה מסדר  $n$ , כאשר  $n \geq 2$

## תשובות סופיות

$$(1) \quad \text{א. } |A| = a - (n-1)a^2 \quad \text{ב. } A \text{ הפיכה אם ורק אם } a_0 \neq 0$$

$$(2) \quad \text{א. } (-1)^{n+1} n! \quad \text{ב. לא.}$$

$$(3) \quad |A| = n!$$

$$(4) \quad |A| = (-1)^{n+1} (n-1) 2^{n-2}$$

$$(5) \quad |A| = (a-b)^{n-2} [a + (n-1)b]$$

$$(6) \quad (-3)^{n-1} (2n-3)n!$$

$$(7) \quad \text{א. } |A| = 1 \quad \text{ב. } |A| = (-1)^{n+1} n$$

$$(8) \quad |A| = 2 \cdot 3^{n-2}$$

$$(9) \quad |A| = (k-1) \cdot k^{n-2} \text{ והמטריצה הפיכה אם ורק אם } k \neq 1 \text{ וגם } k = 0$$

$$(10) \quad |A| = (-1)^{n-1} x^{n-2} (n-1)$$

$$(11) \quad D_n = 1 + \frac{1}{6} n(n+1)(2n+1)$$

$$(12) \quad \text{א. } D_n = aD_{n-1} - bcD_{n-1}, D_2 = a^2 - bc, D_3 = a^3 - 2abc$$

$$\text{ב.1. } D_n = 2^{n+1} - 1 \quad \text{ב.2. } D_{20} = 2^{21} - 1$$

$$|B| = \begin{cases} (-1)^{\frac{n}{2}} |A| & n \text{ even} \\ (-1)^{\frac{n-1}{2}} |A| & n \text{ odd} \end{cases} \quad (13)$$

$$D_n = \begin{cases} (-1)^{\frac{n}{2}} & n \text{ even} \\ (-1)^{\frac{n-1}{2}} & n \text{ odd} \end{cases} \quad (14)$$

$$D_n = \begin{cases} (-1)^{\frac{n+2}{2}} 2(n-2)! & n \text{ even} \\ (-1)^{\frac{n+1}{2}} 2(n-2)! & n \text{ odd} \end{cases} \quad (15)$$

$$D_n = \begin{cases} (-1)^{\frac{n}{2}} (b-a)^{n-1} [b + (n-1)a] & n \text{ even} \\ (-1)^{\frac{n-1}{2}} (b-a)^{n-1} [b + (n-1)a] & n \text{ odd} \end{cases} \quad (16)$$

$$D_n = \begin{cases} (-1)^{\frac{n-1}{2}} & n \text{ odd} \\ (-1)^{\frac{n-2}{2} + n-1} & n \text{ even} \end{cases} \quad (17)$$

$$D_n = \begin{cases} a_n (-1)^{\frac{n}{2}} (x-a_1)(x-a_2) \cdots (x-a_{n-1}) & n \text{ even} \\ a_n (-1)^{\frac{n-1}{2}} (x-a_1)(x-a_2) \cdots (x-a_{n-1}) & n \text{ odd} \end{cases} \quad (18)$$

## חישוב דטרמיננטה לפי משפטי דטרמיננטות

### שאלות

בשאלות 1-2 נתון כי  $A$  ו- $B$  מטריצות מסדר 3,  $|B|=2$ ,  $|A|=4$ .  
חשבו:

$$(1) \quad \text{א. } |ABA^{-1}B^T| \quad \text{ב. } |4A^2B^3|$$

$$(2) \quad \text{א. } |-A^{-2}B^T A^3| \quad \text{ב. } |-2A^2 A^T \text{adj}B|$$

$$(3) \quad \text{נתון: } (PQ)^{-1}APQ = B. \text{ הוכיחו: } |A|=|B|.$$

$$(4) \quad \text{נתון: } A \text{ ו-} B \text{ מטריצות הפיכות מסדר 4, כך ש-} 2AB+3I=0, |A|=2. \text{ חשבו את } |B|.$$

$$(5) \quad \text{נתון: } A \text{ ו-} B \text{ מטריצות הפיכות מסדר 3, כך ש-} B^2-2A^{-1}=0, A+3B=0. \text{ חשבו את } |A|, |B|.$$

$$(6) \quad \text{הוכיחו: 1. } |A^{-1}| = \frac{1}{|A|} \quad \text{2. } |\text{adj}(A_{n \times n})| = |A|^{n-1}.$$

$$(7) \quad \text{נתון כי } A \text{ מטריצה אנטי-סימטרית מסדר אי-זוגי. הוכיחו ש-} |A|=0.$$

$$(8) \quad \text{נתון: } A \text{ מטריצה מסדר } n, |A|=128, 2AB=B^T A^2, \text{ ו-} B \text{ הפיכה. מצאו את } n.$$

$$(9) \quad \text{נתון: } \det(A_{n \times n}) = 2, \det(B_{n \times n}) = \frac{1}{3}.$$

$$\text{חשבו: } \det\left|\frac{1}{3}B^{-n}A^{2n}\right|.$$

$$(10) \text{ נתון } M = \begin{pmatrix} a & b & c & d \\ -b & a & -d & c \\ -c & d & a & -b \\ -d & -c & b & a \end{pmatrix}$$

הוכיחו כי  $\det(M) = (a^2 + b^2 + c^2 + d^2)^2$ .

### תשובות סופיות

(1) א. 4      ב.  $2^{13}$

(2) א. -8      ב.  $-2^{11}$

(3) שאלת הוכחה.

(4)  $\frac{81}{32}$

(5)  $|A|=18, |B|=-2/3$

(6) שאלת הוכחה.

(7) שאלת הוכחה.

(8) 7

(9)  $4^n$

(10) שאלת הוכחה.

## כלל קרמר

## שאלות

בשאלות 1-3 פתרו את מערכות המשוואות בעזרת כלל קרמר:

$$\begin{array}{l} x+2z+5t=8 \\ -2x-6y=-8 \\ 5x+3y-7z+4t=5 \\ 2x+5y+44z=51 \end{array} \quad (3) \quad \begin{array}{l} x+z=3 \\ 4x+y+8z=21 \\ 2x+3z=8 \end{array} \quad (2) \quad \begin{array}{l} x+2y=5 \\ 3x+4y=11 \end{array} \quad (1)$$

$$kx+y+z+t+r=1$$

$$x+ky+z+t+r=1$$

(4) נתונה מערכת המשוואות:  $x+y+kz+t+r=1$

$$x+y+z+kt+r=1$$

$$,x+y+z+t+kr=1$$

א. עבור איזה ערך של  $k$  למערכת פתרון יחיד?

ב. עבור איזה ערך של  $k$  למערכת פתרון יחיד שבו  $x = \frac{1}{2}$ ?

ג. האם קיים  $k$  עבורו למערכת פתרון יחיד שבו  $x = \frac{1}{5}$ ?

ד. הוכיחו שאם למערכת פתרון יחיד, אז בהכרח מתקיים ש-

$$.x=y=z=t=r$$

(5) יהיו  $A, B$  מטריצות ממשיות מסדר  $n \times n$ .

עבור כל אחת מהטענות הבאות קבעו האם היא נכונה או לא.

א. אם למערכת ההומוגנית  $Ax=0$  קיים פתרון יחיד, אז ייתכן ש-  $A^2=0$ .

ב. אם למערכת ההומוגנית  $(A^t A)x=0$  קיים פתרון יחיד, אז  $|A|=0$ .

ג. אם למערכת ההומוגנית  $(AB)x=0$  קיים פתרון יחיד, אז ייתכן ש-  $|A|=0$ .

## תשובות סופיות

$$(1) \quad x=1, y=2$$

$$(2) \quad x=1, y=1, z=2$$

$$(3) \quad x=y=z=t=1$$

$$(4) \quad \text{א. } k \neq 1, k \neq -4$$

$$\text{ב. } k = -2 \quad \text{ג. לא.} \quad \text{ד. הוכחה.}$$

$$(5) \quad \text{א. לא נכונה.} \quad \text{ב. לא נכונה.} \quad \text{ג. לא נכונה.}$$

## מטריצה צמודה קלאסית ומטריצה הפוכה

### שאלות

בשאלות 1-3 חשבו את הצמודה הקלאסית  $adj(A)$ , ובעזרתה את  $A^{-1}$ :

$$A = \begin{pmatrix} 1 & 0 & 1 & 0 \\ 0 & 1 & 0 & 0 \\ 1 & 0 & 1 & 1 \\ 0 & 0 & 1 & 1 \end{pmatrix} \quad (3) \quad A = \begin{pmatrix} 2 & 1 & 1 \\ 0 & 2 & -1 \\ 5 & 2 & 3 \end{pmatrix} \quad (2) \quad A = \begin{pmatrix} 1 & 2 \\ 3 & 4 \end{pmatrix} \quad (1)$$

$$A = \begin{pmatrix} -9 & 26 & -1 & 14 & 10 \\ 13 & -7 & 87 & 4 & 0 \\ 71 & 35 & 3 & 0 & 0 \\ 17 & 2 & 0 & 0 & 0 \\ 2 & 0 & 0 & 0 & 0 \end{pmatrix} \quad (4) \quad \text{נתון:}$$

א. חשבו:  $(adjA)_{1,5}$ .

ב. חשבו:  $(A^{-1})_{1,5}$ .

(5) א. הוכיחו שהדטרמיננטה של מטריצה הפיכה  $A$  שווה ל- $\pm 1$ , כאשר כל איברי

$A$  ו- $A^{-1}$  הם מספרים שלמים.

ב. הוכיחו שאם  $|A|=1$  וכל איברי  $A$  הם מספרים שלמים,

אזי כל איברי  $A^{-1}$  גם הם מספרים שלמים.

(6) נתון ש- $A$  מטריצה משולשית תחתונה והפיכה.

הוכיחו ש- $A^{-1}$  משולשית תחתונה.

(7) נתון ש- $A$  הפיכה.

הוכיחו שגם  $adj(A)$  וגם  $A^T$  הפיכות.

(8) נתון כי  $A, B$  הפיכות ו- $C, D$  לא הפיכות.

האם המטריצות הבאות הפיכות?

א.  $C+D$     ב.  $A+B$     ג.  $AD$     ד.  $CD$     ה.  $AB$

9) מצאו את ערכי  $k$  עבורם המטריצה

$$\begin{pmatrix} 4 & 0 & 7 & 5 & 0 \\ 0 & 0 & 3k & 0 & 0 \\ -7k^2 & 2 & 4k & k & 9+k \\ 3 & 0 & 4 & 2 & -1 \\ -5 & 0 & -8 & -3 & 2 \end{pmatrix}$$

לא הפיכה.

10) ידוע ש- $A, B$  מטריצות ריבועיות מאותו סדר ו- $B \neq 0$ . הוכיחו או הפריכו כל אחת מהטענות הבאות:

- א. אם  $AB = 0$ , אז  $A = 0$ .
- ב. אם  $|AB| = 0$ , אז  $A = 0$ .
- ג. אם  $|AB| = 0$ , אז  $|A| = 0$ .
- ד. אם  $AB = 0$ , אז  $|A| = 0$ .

11) נתונות שתי מטריצות  $A_{3 \times 5}$ ,  $B_{5 \times 3}$ . הוכיחו או הפריכו את הטענות הבאות:

- א.  $|AB| = |BA|$
- ב.  $adj(AB) \neq adj(BA)$

12) אם  $B$  מתקבלת ממטריצה  $A_{3 \times 3}$  על ידי כפל העמודה הראשונה ב-4, אז  $|adj(A) \cdot B|$  שווה ל:

- א.  $4^3 |A|^3$
- ב.  $4^3 |B|^3$
- ג.  $4 |B|^3$
- ד.  $4 |A|^3$

13) נתונה מטריצה ריבועית  $A = (a_{ij})$  מסדר  $n \geq 3$  המקיימת  $a_{ij} = i + j - 1$ . הוכיחו או הפריכו כל אחת מהטענות הבאות:

- א.  $|A| = 4$
- ב.  $A$  הפיכה.
- ג.  $adj(A) = 0$
- ד.  $|A| = 0$

- 14) אם  $G$  היא הצורה המדורגת של מטריצה ריבועית  $A$ , אז:
- בהכרח  $\det(A) = \det(G)$  וגם  $\text{adj}(A) = \text{adj}(G)$ .
  - בהכרח  $\det(A) = \det(G)$ , אך ייתכן ש  $\text{adj}(A) \neq \text{adj}(G)$ .
  - ייתכן ש-  $\det(A) \neq \det(G)$ , אך בהכרח  $\text{adj}(A) = \text{adj}(G)$ .
  - אף תשובה אינה נכונה.

15) תהי  $A = (a_{ij})$  מטריצה ריבועית מסדר  $n \geq 2$ , כך ש-  $a_{ij} = \begin{cases} i & i = j \\ 1 & i \neq j \end{cases}$ .

לכל  $1 \leq i, j \leq n$ , אז בהכרח מתקיים:

א.  $|A| = n! - 1$

ב. הפיכה  $A$ .

ג.  $\text{adj}(A)$  לא הפיכה.

ד. אם  $n = 4$ , אז  $|\text{Adj}(A)| > 214$ .

16) תהי  $A$  מטריצה ריבועית מסדר  $n \geq 4$ .

הוכיחו או הפריכו כל אחת מהטענות הבאות:

א. אם  $\text{rank}(A) = n - 2$ , אז בהכרח  $\text{adj}(A) = 0$ .

ב. אם  $A$  אנטי-סימטרית, אז בהכרח  $\text{adj}(A)$  אנטי-סימטרית.

ג. אם  $\text{adj}(A) = 0$ , אז בהכרח  $A = 0$ .

17) מטריצה ריבועית  $B$  מתקבלת מ-  $A$  ע"י הכפלת השורה הראשונה פי 4, אז  $\text{adj}B$  מתקבלת מ-  $\text{adj}A$  ע"י:

א. הכפלת השורה הראשונה פי 4.

ב. הכפלת כל שורה פרט לראשונה פי 4.

ג. הכפלת העמודה הראשונה פי 4.

ד. הכפלת כל עמודה פרט לראשונה פי 4.

ה. אף תשובה אינה נכונה.

18) תהי  $A$  מטריצה ריבועית מסדר 5 המקיימת  $|\text{Adj}((-1+i)A)| = i$ .

חשבו  $|\det(A)|$ .

19) נתון כי  $A$  מטריצה ריבועית מסדר  $n$ . הוכיחו את הטענות הבאות:

א.  $A$  הפיכה  $\Leftrightarrow Adj(A)$  הפיכה.

ב.  $Adj(A^{-1}) = (Adj(A))^{-1}$ .

ג.  $|Adj(A)| = |A|^{n-1}$ .

## תשובות סופיות

$$\text{adj}(A) = \begin{pmatrix} 4 & -2 \\ -3 & 1 \end{pmatrix}, \quad A^{-1} = \begin{pmatrix} -2 & 1 \\ 1.5 & -0.5 \end{pmatrix} \quad (1)$$

$$\text{adj}(A) = A^{-1} = \begin{pmatrix} 8 & -1 & -3 \\ -5 & 1 & 2 \\ -10 & 1 & 4 \end{pmatrix} \quad (2)$$

$$\text{adj}(A) = \begin{pmatrix} 0 & 0 & -1 & 1 \\ 0 & -1 & 0 & 0 \\ -1 & 0 & 1 & -1 \\ 1 & 0 & -1 & 0 \end{pmatrix}, \quad A^{-1} = \begin{pmatrix} 0 & 0 & 1 & -1 \\ 0 & 1 & 0 & 0 \\ 1 & 0 & -1 & 1 \\ -1 & 0 & 1 & 0 \end{pmatrix} \quad (3)$$

0.5 ב. א. 240 (4)

שאלת הוכחה. (5)

שאלת הוכחה. (6)

שאלת הוכחה. (7)

א. לא ניתן לדעת. ב. לא ניתן לדעת. ג. לא הפיכה. (8)

ד. לא הפיכה. ה. הפיכה.

אם ורק אם  $k = 0$ . (9)

שאלת הוכחה. (10)

שאלת הוכחה. (11)

ד (12)

שאלת הוכחה. (13)

ד (14)

ד (15)

שאלת הוכחה. (16)

ד (17)

$$\frac{-5}{2^2} \quad (18)$$

שאלת הוכחה. (19)

## שימושי הדטרמיננטה

### שאלות

- 1) א. חשבו את שטח המקבילית שקדקודיה:  $(0,0), (5,2), (6,5), (11,6)$  .1  
 2.  $(-1,0), (0,5), (1,-4), (2,1)$  .  
 ב. חשבו את נפח המקבילון שקדקודיו:  $(0,0,0), (1,0,-2), (1,2,4), (7,1,0)$  .  
 ג. מצאו משוואת מישור העובר דרך הנקודות:  $(3,3,-2), (-1,3,1), (1,1,-1)$  .  
 ד. חשבו את שטח המשולש שקדקודיו:  $(1,2), (3,4), (5,8)$  .  
הערה: בכל אחד מהסעיפים בתרגיל זה יש להשתמש בדטרמיננטות.

### תשובות סופיות

- 1) א.1. 13. א.2. 14. ב. 22. ג.  $3x - y + 4z + 2 = 0$ . ד. 2

## תרגילי תיאוריה מתקדמים

### שאלות

(1) אם  $B$  מתקבלת ממטריצה  $A$   $3 \times 3$ , ע"י כפל העמודה הראשונה ב-7, אז  $|adj(A)B|$  היא:

א.  $|A|^3$

ב.  $|B|^3$

ג.  $|A||B|^2$

ד.  $|A|^2|B|$

(2)  $A, B$  מטריצות ריבועיות מאותו סדר,  $B \neq 0$ , אז:

א. אם  $AB = 0$ , אז  $A = 0$ .

ב. אם  $AB = 0$ , אז  $|A| = 0$ .

ג. אם  $|AB| = 0$ , אז  $A = 0$ .

ד. אם  $|AB| = 0$ , אז  $|A| = 0$ .

ה. אף תשובה אינה נכונה.

(3)  $B$  מטריצה  $5 \times 3$ ,  $A$  מטריצה  $3 \times 5$ , אז בהכרח:

א.  $\det(AB) = \det(BA)$

ב.  $\text{rank}(AB) = \text{rank}(BA)$

ג.  $\text{rank}(AB) \neq \text{rank}(BA)$

ד.  $\text{adj}(AB) \neq \text{adj}(BA)$

ה. אף תשובה אינה נכונה.

(4)  $A$  מטריצה ריבועית,  $B$  מתקבלת מ- $A$  ע"י הכפלת השורה הראשונה פי 7, אז  $adjB$  מתקבלת מ- $adjA$  ע"י:

א. הכפלת השורה הראשונה פי 7.

ב. הכפלת כל שורה פרט לראשונה פי 7.

ג. הכפלת העמודה הראשונה פי 7.

ד. הכפלת כל עמודה פרט לראשונה פי 7.

ה. אף תשובה אינה נכונה.

- 5 יהיו  $A, B$  מטריצות ממשיות מסדר  $n \times n$ . אז בהכרח מתקיים :
- אם למערכת ההומוגנית  $(AB)x = 0$  קיימים שני פתרונות שונים, אז בהכרח  $|A| = 0$ .
  - אם קיים פתרון שונה מ-0 למערכת ההומוגנית  $(AB)x = 0$ , אז למערכת ההומוגנית  $(BA)x = 0$  קיים פתרון שונה מ-0.
  - אם למערכת ההומוגנית  $Ax = 0$  קיים פתרון יחיד, אז ייתכן ש- $A^2 = 0$ .
  - אם למערכת ההומוגנית  $(A^t A)x = 0$  קיים פתרון יחיד, אז השורות של  $A$  תלויות ליניארית.
  - ה. אף תשובה אינה נכונה.
- 6 תהיינה  $A, B$  מטריצות ריבועיות ממשיות מסדר  $n \geq 4$ . אזי בהכרח מתקיים :
- אם  $rank(A) = n - 2$ , אז בהכרח  $adj(A) = 0$ .
  - אם  $A$  אנטי-סימטרית, אז בהכרח  $adj(A)$  אנטי-סימטרית.
  - אם  $adj(A) = 0$ , אז בהכרח  $A = 0$ .
  - ה. אף תשובה אינה נכונה.
- 7 תהא  $A = (a_{ij})$  מטריצה ריבועית מסדר  $n \geq 3$ , כך ש- $a_{ij} = i + j - 1$ .
- אז בהכרח מתקיים :
- א.  $|A| = 2$
  - ב.  $|A| = 0$
  - ג. עמודות  $A$  בלתי-תלויות ליניארית.
  - ד.  $adj(A) = 0$
  - ה. אף תשובה אינה נכונה.
- 8 תהא  $A$  מטריצה ריבועית מסדר 5, ונניח ש- $|adj((-1+i)A)| = i$ , אז הערך המוחלט של הדטרמיננטה שווה ל :
- א.  $\sqrt[4]{2}$
  - ב.  $-3i$
  - ג. 0
  - ד.  $\frac{\sqrt{2}}{8}$
  - ה. אף תשובה אינה נכונה.

9) נניח  $A, B$  מטריצות מסדר גודל  $n \times n$  המקיימות  $A^2 - 2AB = I_n$ .

אז בהכרח מתקיים:

א.  $B$  הפיכה.

ב.  $|A| = 0$

ג. למערכת  $ABx = 0$  פתרון יחיד.

ד.  $AB = BA$

ה. אף תשובה אינה נכונה.

10) אם  $G$  היא הצורה המדורגת של מטריצה ריבועית  $A$ , אז:

א. בהכרח  $\det(A) = \det(G)$  וגם  $\text{adj}(A) = \text{adj}(G)$ .

ב. בהכרח  $\det(A) = \det(G)$ , אך ייתכן ש  $\text{adj}(A) \neq \text{adj}(G)$ .

ג. ייתכן ש-  $\det(A) \neq \det(G)$ , אך בהכרח  $\text{adj}(A) = \text{adj}(G)$ .

ד. אף תשובה אינה נכונה.

11) תהי  $A = (a_{ij})$  מטריצה ריבועית מסדר  $n \geq 2$ , כך ש-  $a_{ij} = \begin{cases} i & i = j \\ 1 & i \neq j \end{cases}$ .

לכל  $1 \leq i, j \leq n$ , אז בהכרח מתקיים:

א.  $|A| = n! - 1$

ב.  $|A| \neq 0$

ג. עמודות  $A$  בלתי-תלויות ליניארית.

ד.  $\text{adj}(A) = 0$

ה. אף תשובה אינה נכונה.

12) יהיו  $A, B$  מטריצות ממשיות מסדר  $n \times n$ . אז בהכרח מתקיים:

א. אם למערכת ההומוגנית  $(AB)x = 0$  קיים פתרון יחיד, אז ייתכן ש-  $|A| = 0$ .

ב. אם קיים פתרון שונה מ-0 למערכת ההומוגנית  $(AB)x = 0$ ,

אז למערכת ההומוגנית  $Ax = 0$  קיים פתרון שונה מ-0.

ג. אם למערכת ההומוגנית  $Ax = 0$  קיים פתרון יחיד, אז ייתכן ש-  $A^2 = 0$ .

ד. אם למערכת ההומוגנית  $(A^t A)x = 0$  קיים פתרון יחיד, אז השורות

של  $A$  בלתי-תלויה ליניארית.

ה. אף תשובה אינה נכונה.

## תשובות סופיות

ב (5	ד (4	ד (3	ב (2	ד (1
ד (10	ד (9	ד (8	ב (7	א (6
			ד (12	ג (11

# מתמטיקה לחשבונאים ב

פרק 12 - אינטגרלים בשיטת אינטגרציה בחלקים

תוכן העניינים

1. אינטגרלים בשיטת אינטגרציה בחלקים.....103

## אינטגרלים בשיטת אינטגרציה בחלקים

### שאלות

חשבו את האינטגרלים בשאלות 1-23:

$$\int x \sin x dx \quad (3) \qquad \int x^4 \ln x dx \quad (2) \qquad \int x e^x dx \quad (1)$$

$$\int x^2 e^{-4x} dx \quad (6) \qquad \int x^2 \sin 4x dx \quad (5) \qquad \int (x^2 + 2x + 3) \ln x dx \quad (4)$$

$$\int \arctan x dx \quad (9) \qquad \int \ln \frac{1}{\sqrt[3]{x}} dx \quad (8) \qquad \int \ln x dx \quad (7)$$

$$\int \frac{x}{\cos^2 x} dx \quad (12) \qquad \int x \cdot \ln \sqrt[5]{x-2} dx \quad (11) \qquad \int \arcsin x dx \quad (10)$$

$$\int x^2 \ln(x^2 + 1) dx \quad (15) \qquad \int x \arctan x dx \quad (14) \qquad \int \frac{\ln x}{x^2} dx \quad (13)$$

$$\int e^x \cos x dx \quad (18) \qquad \int \left( \frac{\ln x}{x} \right)^2 dx \quad (17) \qquad \int \ln^2 x dx \quad (16)$$

$$\int \frac{x e^x}{(x+1)^2} dx \quad (21) \qquad \int \sqrt{1-x^2} dx \quad (20) \qquad \int e^{2x} \sin 4x dx \quad (19)$$

$$\int (x+1)^4 \cdot \sqrt{x+2} dx \quad (23) \qquad \int x \tan^2 x dx \quad (22)$$

(24) מצאו נוסחת נסיגה עבור  $\int x^n e^x dx$  כאשר  $n$  טבעי.

(25) חשבו את  $\int x^4 e^x dx$ .

(26) מצאו נוסחת נסיגה עבור  $\int \cos^n x dx$  כאשר  $n$  טבעי.

(27) חשבו את  $\int \cos^4 x dx$ .

(28) מצאו נוסחת נסיגה עבור  $\int \sin^n x dx$  באשר  $n$  טבעי.

(29) חשבו את  $\int \sin^4 x dx$ .

(30) מצאו נוסחת נסיגה עבור  $\int \frac{1}{(1+x^2)^n} dx$  באשר  $n$  טבעי.

(31) חשבו את  $\int \frac{1}{(1+x^2)^4} dx$ .

(32) חשבו את האינטגרלים  $\int e^{ax} \cos bxdx$ ,  $\int e^{ax} \sin bxdx$ .

## תשובות סופיות

$$xe^x - e^x + c \quad (1)$$

$$\frac{x^5}{5} \left( \ln x - \frac{1}{5} \right) + c \quad (2)$$

$$x \cos x + \sin x + c \quad (3)$$

$$\left( \frac{x^3}{3} + x^2 + 3x \right) \ln x - \frac{x^3}{9} + \frac{x^2}{2} + 3x + c \quad (4)$$

$$-\frac{x^2}{4} \cos 4x + \frac{1}{2} \left( \frac{x}{4} \sin x + \frac{1}{16} \cos 4x \right) + c \quad (5)$$

$$-\frac{x^2}{4} e^{-4x} + \frac{1}{2} \left( -\frac{1}{4} x e^{-4x} - \frac{1}{16} e^{-4x} \right) + c \quad (6)$$

$$x \ln x - x + c \quad (7)$$

$$-\frac{1}{3} (x \ln x - x) + c \quad (8)$$

$$x \arctan x - \frac{1}{2} \ln |1 + x^2| + c \quad (9)$$

$$x \arcsin x + \sqrt{1 - x^2} + c \quad (10)$$

$$\frac{1}{5} \left( \frac{x^2}{2} \ln(x-2) - \frac{1}{2} \left( \frac{x^2}{2} + 2x + 4x \ln |x-2| \right) \right) + c \quad (11)$$

$$x \tan x + \ln |\cos x| + c \quad (12)$$

$$-\frac{1}{x} \ln x - \frac{1}{x} + c \quad (13)$$

$$\arctan x \cdot \frac{x^2}{2} - \frac{1}{2} (x - \arctan x) + c \quad (14)$$

$$\frac{x^3}{3} \ln(x^2 + 1) - \frac{2}{3} \left( \frac{x^3}{3} - x + \arctan x \right) + c \quad (15)$$

$$x(\ln x)^2 - 2(x \ln x - x) + c \quad (16)$$

$$-\frac{1}{x} \ln x - \frac{2}{x} (\ln x - 1) + c \quad (17)$$

$$-e^x \cos x + \frac{e^x (\sin x + \cos x)}{2} + c \quad (18)$$

$$\frac{e^{2x} \left( -\cos 4x + \frac{1}{2} \sin 4x \right)}{5} + c \quad (19)$$

$$\frac{x\sqrt{1-x^2} + \arcsin x}{2} + c \quad (20)$$

$$\frac{e^x}{x+1} + c \quad (21)$$

$$x(\tan x - x) + \ln |\cos x| + \frac{x^2}{2} + c \quad (22)$$

$$\frac{2}{9}(x+1)(x+2)^{\frac{9}{2}} - \frac{4}{99}(x+2)^{\frac{11}{2}} + c \quad (23)$$

$$x^n e^x - n \int x^{n-1} e^x dx \quad (24)$$

$$e^x (x^4 - 4x^3 + 12x^2 - 24x + 24) + c \quad (25)$$

$$\frac{1}{n} \left\{ (\cos x)^{n-1} \sin x + (n-1) \int (\cos x)^{n-2} dx \right\} \quad (26)$$

$$\frac{1}{4} (\cos^3 x \sin x + 3 \cdot 5 (\cos x \sin x + x)) + c \quad (27)$$

$$\frac{1}{n} \left( -(\sin x)^{n-1} \cos x + (n-1) \int (\sin x)^{n-2} dx \right) \quad (28)$$

$$\frac{1}{4} (-\sin^3 x \cos x + 3 \cdot 5 (x - \sin x \cos x)) + c \quad (29)$$

$$\frac{1}{2n} \left( \frac{x}{(1+x^2)^n} + \int \frac{dx}{(1+x^2)^n} (2n-1) \right) \quad (30)$$

$$\frac{1}{6} \left\{ \frac{x}{(1+x^2)^3} + \frac{1}{4} \left\{ \frac{x}{(1+x^2)^2} + \frac{1}{2} \left\{ \frac{x}{1+x^2} + \arctan x \right\} \right\} \right\} \quad (31)$$

$$\int e^{ax} \cos bxdx = e^{ax} \frac{b \sin bx + a \cos bx}{a^2 + b^2}, \quad \int e^{ax} \sin bxdx = e^{ax} \frac{a \sin bx - b \cos bx}{a^2 + b^2} \quad (32)$$

# מתמטיקה לחשבונאים ב

פרק 13 - האינטגרלים

תוכן העניינים

1. אינטגרלים לא מסויימים ..... (ללא ספר)
2. אינטגרלים בשיטת ההצבה ..... (ללא ספר)
3. אינטגרלים של פונקציות רציונליות ..... (ללא ספר)
4. האינטגרל המסויים ..... (ללא ספר)
5. חישוב שטחים ..... (ללא ספר)