

מכינה למתמטיקה 3 יחידות לימוד



תוכן העניינים

1. מבוא לאלגברה..... 1
2. משוואות ממעלה ראשונה..... (ללא ספר)
3. משוואות ממעלה שנייה..... (ללא ספר)
4. משוואות ממעלה שלישית ומעלה..... (ללא ספר)
5. משוואות אלגבריות (רמת 4 יחידות)..... 47
6. הפונקציה הקווית..... (ללא ספר)
7. הפונקציה הריבועית..... (ללא ספר)
8. הנדסה אנליטית - הישר..... (ללא ספר)
9. קריאת גרפים..... (ללא ספר)
10. בעיות גדילה ודעיכה..... (ללא ספר)
11. מבוא לסטטיסטיקה..... (ללא ספר)
12. מדדים מרכזיים - השכיח..... (ללא ספר)
13. מדדים מרכזיים - הממוצע..... (ללא ספר)
14. מדדים מרכזיים - החציון..... (ללא ספר)
15. שאלות מסכמות - מדדים מרכזיים..... (ללא ספר)
16. סטטיסטיקה (פרק מתקדם)..... (ללא ספר)
17. מבוא להסתברות..... (ללא ספר)
18. הסתברות של מאורע בודד..... (ללא ספר)
19. הסתברות של שני מאורעות..... (ללא ספר)
20. הסתברות קלאסית (רמת 4 יחידות)..... (ללא ספר)
21. התפלגות נורמלית..... (ללא ספר)
22. חשבון דיפרנציאלי - פונקצית הפולינום..... (ללא ספר)

מכינה למתמטיקה 3 יחידות לימוד

פרק 1 - מבוא לאלגברה

תוכן העניינים

1	1. מספרים מכוונים
5	2. חזקות ושורשים עם מספרים מכוונים
7	3. סדר פעולות חשבון עם מספרים מכוונים
8	4. שברים פשוטים, עשרוניים ואחוזים
14	5. כפל וחילוק שברים
16	6. חיבור וחסור שברים
20	7. בעיות יסודיות באחוזים
22	8. חזרה על תבניות מספר
24	9. כינוס איברים
26	10. פישוט ביטויים על ידי פתיחת סוגריים
28	11. פישוט ביטויים באמצעות נוסחאות הכפל המקוצר
30	12. פירוק לגורמים של ביטויים אלגברים
33	13. פירוק הטרינום
35	14. שברים אלגברים
39	15. כפל וחילוק של שברים אלגברים
41	16. חיבור וחסור של שברים אלגברים
45	17. שברים כפולים

מספרים מכוונים:

סיכום כללי:

מספרים מכוונים הם מספרים שיכולים לקבל סימן חיובי או שלילי, כגון:

- בקניון גדול ישנן קומות 1, 2, 3, 4, וכן חניונים הממוקמים בקומות 1-, 2-, ו-3-.
- גובה פני הים מוגדר להיות 0 מטרים. העיר חיפה נמצאת כ-103 מטרים מעל פני הים בעוד שים המלח נמצא בגובה 426- מטרים.

כללים:

- כאשר מחברים שני מספרים בעלי סימנים זהים, מחברים את המספרים עצמם והסימן נשאר.
- כאשר מחברים שני מספרים בעלי סימנים מנוגדים, מחסירים את המספרים זה מזה (הקטן מהגדול) וסימן התוצאה כסימן המספר הגדול מביניהם.
- כפל וחילוק יתבצע בשני חלקים:
 - ביצוע הפעולה על המספרים עצמם.
 - קביעת הסימן של התוצאה באופן הבא:
 - כפל או חילוק של שני מספרים בעלי אותו סימן - התוצאה תהיה חיובית.
 - כפל או חילוק של שני מספרים שונים סימן - התוצאה תהיה שלילית.

הערה:

אם יש רצף של מכפלות (או חילוקים), סימן התוצאה תלוי במספר הפעמים שבהם מופיע סימן שלילי (-). אם הסימן מופיע מספר זוגי של פעמים התוצאה חיובית, ואם הוא מופיע מספר אי-זוגי של פעמים אזי התוצאה שלילית.

שאלות:

(1) סמנו את המספרים הבאים על ציר המספרים בהתאמה:

$$-3\frac{1}{2}, 4, 1\frac{1}{3}, -5, -\frac{1}{2}, 2, 0, \frac{1}{2}, -2$$



(2) חשבו את ערכי הביטויים הבאים:

ב. $-3-2$

א. $3+2$

ד. $-3+2$

ג. $3-2$

ו. $7+10$

ה. $-1-4$

ח. $-7+3$

ז. $-6+5$

(3) חשבו את ערכי הביטויים הבאים:

ב. $5-8-12+17$

א. $5+7-23+1$

ד. $-4-11+2+9$

ג. $3-14+2+6$

ו. $-7-13+5-3$

ה. $6-21+3-7$

(4) חשב את ערכי הביטויים הבאים:

ב. $4 \cdot (-7)$

א. $4 \cdot 9$

ד. $(-5) \cdot (-3)$

ג. $(-6) \cdot (-5)$

ו. $(-8) \cdot 5$

ה. $(-2) \cdot 8$

ח. $2 \cdot 3 \cdot 3$

ז. $(-2) \cdot (-3) \cdot (-3)$

י. $(-2) \cdot (-3) \cdot 3$

ט. $(-2) \cdot 3 \cdot (-3)$

יב. $(-2) \cdot (-3) \cdot (-3) \cdot (-2)$

יא. $2 \cdot 3 \cdot (-3)$

יד. $1 \cdot (-2) \cdot (-4) \cdot 2$

יג. $(-1) \cdot (-2) \cdot (-4) \cdot 2$

5) מהו הסימן של תוצאת המכפלה בכל מקרה :

א. $(-2) \cdot (-4) \cdot (-3) \cdot (-10) \cdot (-6) \cdot (-5)$

ב. $(-1) \cdot 2 \cdot 4 \cdot (-3) \cdot (-10) \cdot 6 \cdot (-5)$

ג. $(-1) \cdot 2 \cdot 4 \cdot (-3) \cdot (-10) \cdot (-6) \cdot (-5)$

ד. $(-1) \cdot 2 \cdot 4 \cdot (-3) \cdot (-10) \cdot 6 \cdot 5$

6) חשבו את ערכי הביטויים הבאים :

ב. $(-30) : 3$

א. $(-25) : (-5)$

ד. $(-32) : (-4)$

ג. $40 : (-10)$

ו. $4 : (-16)$

ה. $(-6) : 18$

7) חשבו את ערכי הביטויים הבאים :

ב. $\frac{42}{-6}$

א. $\frac{-60}{12}$

ד. $\frac{-12}{-3}$

ג. $\frac{32}{-4}$

8) מה התוצאה של כל אחת מהפעולות הבאות :

ב. $(-2) \cdot 0$

א. $0 : 5$

ד. $6 : 0$

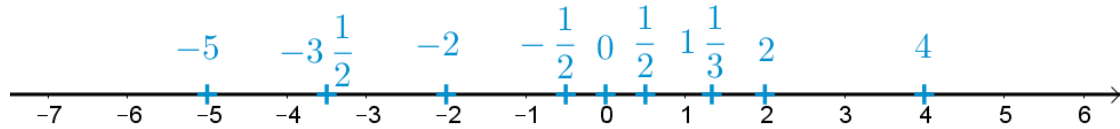
ג. $0 \cdot (-3) \cdot 4$

ו. $0 - 4$

ה. $0 + 4$

תשובות סופיות:

(1) להלן מערכת הצירים:



- (2) א. 5 ב. -5 ג. 1 ד. -1 ה. -5
- ו. 17 ז. -1 ח. -4
- (3) א. -10 ב. 2 ג. -3 ד. -4 ה. -19 ו. -18
- (4) א. 36 ב. -28 ג. 30 ד. 15 ה. -16
- ו. -40 ז. -18 ח. 18 ט. 18 י. 18
- יא. -18 יב. 36 יג. -16 יד. 16
- (5) א. + ב. + ג. - ד. -
- (6) א. 5 ב. -10 ג. -4 ד. 8 ה. $-\frac{1}{3}$ ו. $-\frac{1}{4}$
- (7) א. -5 ב. -7 ג. -8 ד. 4
- (8) א. 0 ב. 0 ג. 0 ד. לא מוגדר ה. 4 ו. -4

חזקות ושורשים עם מספרים מכוונים:

סיכום כללי:

הגדרה:

פעולת החזקה היא צורה מקוצרת שמייצגת פעולת כפל של אותו מספר בעצמו מספר פעמים. סימון החזקה הוא באופן הבא:

$$a^n = \underbrace{a \cdot a \cdot a \cdot \dots \cdot a}_n$$

כאשר a נקרא הבסיס ו- n נקראת החזקה.

הערות:

- כאשר הבסיס חיובי, התוצאה תמיד תהיה חיובית ללא קשר האם החזקה היא זוגית או אי-זוגית.
- כאשר הבסיס שלילי, התוצאה תהיה חיובית אם החזקה היא זוגית ושלילית אם החזקה היא אי-זוגית.

הגדרה:

פעולת השורש היא הפוכה לפעולת החזקה והיא מאפשרת למצוא את בסיס החזקה. סימון השורש הוא באופן הבא:

$$\sqrt[n]{a}$$

כאשר a נקרא הבסיס ו- n נקרא סדר השורש.

הערות:

- שורש למספר חיובי יכול להיות מסדר זוגי או אי-זוגי.
- שורש למספר שלילי יכול להיות מסדר אי-זוגי בלבד.

שאלות:

(1) חשב את ערכי הביטויים הבאים:

- | | |
|--------------|---------------|
| א. 3^2 | ב. 3^3 |
| ג. $(-3)^3$ | ד. $(-2)^3$ |
| ה. 4^3 | ו. 3^4 |
| ז. $(-5)^3$ | ח. 10^4 |
| ט. $-(-3)^4$ | י. -5^4 |
| יא. -4^3 | יב. $-(-2)^6$ |

(2) חשב את ערכי הביטויים הבאים:

- | | |
|--------------------|----------------------|
| א. $\sqrt[3]{-27}$ | ב. $\sqrt[4]{625}$ |
| ג. $\sqrt[4]{-16}$ | ד. $\sqrt[5]{-32}$ |
| ה. $-\sqrt[4]{81}$ | ו. $-\sqrt[3]{1000}$ |

תשובות סופיות:

- | | | | | | |
|-----------|----------|-------------|---------|---------|---------|
| (1) א. 9 | ב. 27 | ג. -27 | ד. -8 | ה. 64 | ו. 81 |
| ז. -125 | ח. 10000 | ט. -81 | י. -625 | יא. -64 | יב. -64 |
| (2) א. -3 | ב. 5 | ג. לא מוגדר | ד. -2 | ה. -3 | ו. -10 |

סדר פעולות חשבון עם מספרים מכוונים:

סיכום כללי:

סדר פעולות חשבון:

- פעולות כפל וחילוק קודמות לפעולות חיבור וחסור.
- פעולות חזקה ושורש קודמות לפעולות כפל וחילוק.
- סוגריים קודמים לכל.

שאלות:

חשב את ערכי הביטויים הבאים:

$(-3)^2 : 9 - 2 \cdot (-4^2)$ (2)	$\sqrt{81} + 3 \cdot 2^3 - 40 : 8$ (1)
$3 + 4 \cdot [-3 + 4 \cdot (-2)] + \sqrt{10 + 6}$ (4)	$\sqrt{144} - 20 : 4 + 3 \cdot (-2)^2$ (3)
$-\sqrt{9} + 5^2 : (-4 - 1) - 24 : 12 \cdot 3$ (6)	$(-3)^4 : (-9) - 5 \cdot (-2)^3$ (5)
$\sqrt[3]{-27} + 4 \cdot 3^2 - 2 \cdot 3^3$ (8)	$-2^5 : (-8) + 4^2 - 3 \cdot 5$ (7)
$(8 - \sqrt[3]{64}) \cdot (2 \cdot (-4) - \sqrt[3]{243})$ (10)	$[6 \cdot (-1)^4 - 10 \cdot (-1)^3] \cdot (-1)^5$ (9)
	$\frac{3^2 \cdot (8 - 2 \cdot 3)^3}{(5^2 \cdot 3 - 72) \cdot (-4)} + 2 \cdot \{15 - 20 : (4 + 3 \cdot 2)\}$ (11)

תשובות סופיות:

-37 (4)	19 (3)	33 (2)	28 (1)
-21 (8)	5 (7)	-14 (6)	31 (5)
	20 (11)	-44 (10)	-16 (9)

שברים פשוטים, עשרוניים ואחוזים:

סיכום כללי:

הגדרה כללית:

השבר הוא חלק מתוך השלם. מקובל לסמן שבר באמצעות קו שבר המפריד בין המונה (החלק העליון) למכנה (החלק התחתון) באופן הבא:

$$\frac{\text{מונה}}{\text{מכנה}}$$

ישנם שלושה סוגים אפשריים של שברים:

- שבר פשוט – בו המונה קטן מהמכנה (ולכן תמיד יהיה קטן מ-1).
- שבר מדומה – בו המונה גדול מהמכנה (יהיה גדול בערכו מ-1).
- שבר מעורב – המכיל שילוב של מספר שלם ושבר כלשהו.

שבר עשרוני:

שבר שהמכנה שלו הוא מספר המהווה כפולות של 10 כגון: 10, 100, 1000 ... שבר עשרוני מיוצג ע"י נקודה עשרונית אשר מבדילה בין החלק שלם לחלק השברי באופן הבא:

$$\underbrace{XX}_{\text{שברים שלמים}}.\underbrace{YYY}$$

כדי להמיר שבר פשוט לשבר עשרוני המכנה צריך להיות בכפולות של 10.

אחוזים - הגדרה:

השבר $\frac{1}{100}$ מוגדר להיות אחוז אחד ומסומן באופן הבא: 1%.

באופן זה השבר $\frac{45}{100}$ יכתב: 45%, והשבר $\frac{145}{100}$ יכתב: 145%.

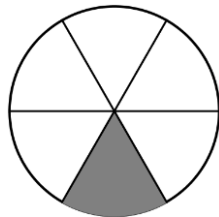
שאלות:

(1) צבע את החלקים המתאימים בכל עיגול:

ב. צבע $\frac{1}{6}$ מהעיגולא. צבע $\frac{1}{2}$ מהעיגולד. צבע $\frac{2}{5}$ מהעיגולג. צבע $\frac{3}{8}$ מהעיגול

(2) כתוב את השבר המתאים לחלקים הצבועים בכל אחד מהמקרים הבאים:

ב. שבר:



א. שבר:



ד. שבר:



ג. שבר:



(3) הרחב את השברים הבאים:

א. השבר $\frac{1}{2}$ לפי בסיס 4, לפי בסיס 18, לפי בסיס 40.ב. השבר $\frac{3}{5}$ לפי בסיס 10, לפי בסיס 25, לפי בסיס 60.ג. השבר $\frac{5}{8}$ לפי בסיס 16, לפי בסיס 32, לפי בסיס 88.

(4) צמצם את השברים הבאים ככל הניתן :

א. $\frac{25}{30}$	ב. $\frac{10}{30}$	ג. $\frac{6}{24}$	ד. $\frac{4}{20}$
ה. $\frac{35}{56}$	ו. $\frac{24}{42}$	ז. $\frac{36}{48}$	ח. $\frac{33}{121}$

(5) המר את השברים המדומים הבאים לשברים מעורבים :

א. $-\frac{20}{3}$	ב. $\frac{19}{4}$	ג. $\frac{12}{5}$	ד. $\frac{22}{5}$
ה. $-\frac{34}{6}$	ו. $-\frac{50}{7}$	ז. $\frac{47}{8}$	ח. $\frac{60}{9}$

(6) המר את השברים המעורבים הבאים לשברים מדומים :

א. $1\frac{2}{3}$	ב. $3\frac{5}{6}$	ג. $4\frac{1}{2}$	ד. $6\frac{1}{4}$
ה. $11\frac{3}{4}$	ו. $-2\frac{5}{8}$	ז. $-6\frac{2}{7}$	ח. $12\frac{7}{9}$

(7) קבע איזה שבר גדול יותר בכל אחד מהמקרים הבאים :

א. $\frac{4}{10}$ או $\frac{3}{10}$	ב. $\frac{7}{6}$ או $\frac{7}{8}$
ג. $\frac{5}{6}$ או $\frac{2}{3}$	ד. $\frac{7}{12}$ או $\frac{5}{18}$

(8) המר את השברים העשרוניים הבאים לשברים פשוטים מצומצמים או מעורבים :

א. 0.7	ב. 0.07	ג. 0.007	ד. 0.34
ה. 0.304	ו. 0.65	ז. 1.2	ח. 1.02
ט. 1.42	י. 3.5	יא. 6.03	יב. 5.125

9) המר את השברים הבאים לשברים עשרוניים:

א. $\frac{3}{10}$	ב. $\frac{3}{100}$	ג. $\frac{3}{1000}$	ד. $\frac{23}{1000}$
ה. $\frac{1}{2}$	ו. $\frac{3}{4}$	ז. $\frac{2}{5}$	ח. $\frac{4}{25}$
ט. $\frac{7}{50}$	י. $\frac{3}{20}$	יא. $\frac{7}{8}$	יב. $\frac{9}{16}$
יג. $9\frac{1}{10}$	יד. $3\frac{1}{5}$	טו. $4\frac{7}{8}$	טז. $-4\frac{1}{16}$

10) כתוב את השברים הבאים בצורתם העשרונית (היעזר במחשבון וכתוב עד 3 ספרות אחרי הנקודה העשרונית):

א. $\frac{2}{3}$	ב. $\frac{5}{6}$	ג. $\frac{3}{7}$	ד. $\frac{2}{11}$
------------------	------------------	------------------	-------------------

11) המר מאחוזים לשברים פשוטים:

א. 25%	ב. 32%	ג. 64%	ד. 80%
ה. 120%	ו. 5%	ז. 300%	ח. 150%

12) המר משברים פשוטים לאחוזים:

א. $\frac{3}{4}$	ב. $\frac{1}{8}$	ג. $\frac{4}{5}$	ד. $\frac{7}{20}$
ה. $\frac{11}{40}$	ו. $\frac{70}{125}$	ז. $\frac{5}{6}$	ח. $\frac{4}{9}$

תשובות סופיות:

(1) תשובה מודגמת בסרטון.

- (2) א. $\frac{1}{5}$ ב. $\frac{1}{6}$ ג. $\frac{2}{3}$ ד. $\frac{3}{4}$
- (3) א. $\frac{4}{8}, \frac{18}{36}, \frac{40}{80}$ ב. $\frac{30}{50}, \frac{75}{125}, \frac{180}{300}$ ג. $\frac{80}{128}, \frac{160}{256}, \frac{440}{700}$
- (4) א. $\frac{5}{6}$ ב. $\frac{1}{3}$ ג. $\frac{1}{4}$ ד. $\frac{1}{5}$ ה. $\frac{5}{8}$ ו. $\frac{4}{7}$
- (5) א. $-6\frac{2}{3}$ ב. $4\frac{3}{4}$ ג. $2\frac{2}{5}$ ד. $4\frac{2}{5}$ ה. $-5\frac{4}{6}$ ו. $-7\frac{1}{7}$
- (6) א. $\frac{5}{3}$ ב. $\frac{23}{6}$ ג. $\frac{9}{2}$ ד. $\frac{25}{4}$ ה. $\frac{47}{4}$ ו. $-\frac{21}{8}$
- (7) א. $\frac{4}{10}$ ב. $\frac{7}{6}$ ג. $\frac{5}{6}$ ד. $\frac{7}{12}$
- (8) א. $\frac{7}{10}$ ב. $\frac{7}{100}$ ג. $\frac{7}{1000}$ ד. $\frac{17}{50}$ ה. $\frac{38}{125}$ ו. $\frac{13}{20}$
- (9) א. 0.3 ב. 0.03 ג. 0.003 ד. 0.023 ה. 0.5 ו. 0.75
- א. 0.4 ב. 0.16 ג. 0.14 ד. 3.2 ה. 0.875 ו. -4.0625
- (10) א. $\bar{0.6}$ ב. $\bar{0.83}$ ג. 0.428 ד. $\bar{0.18}$
- (11) א. $\frac{1}{4}$ ב. $\frac{8}{25}$ ג. $\frac{16}{25}$ ד. $\frac{4}{5}$ ה. $1\frac{1}{5}$ ו. $\frac{1}{20}$
- א. 3 ב. $1\frac{1}{2}$ ח. $1\frac{1}{2}$ ט. $\frac{3}{4}$

12) א. 75% ב. 12.5% ג. 80% ד. 35% ה. 27.5% ו. 56%

ז. 83.333% ח. 44.444%

כפל וחילוק שברים:

סיכום כללי:

- כשכופלים שני שברים יש לכפול מונה במונה ומכנה במכנה.
 - במידה ומדובר במספר שלם הכופל שבר, יש לכפול אותו במונה.
 - במידה ומדובר בשברים מעורבים, יש להפוך אותם תחילה לשברים מדומים ורק אז לבצע את פעולת הכפל.
- כדי לחלק שברים, יש לכפול את השבר הראשון בהופכי של השבר השני.
 - הופכי של שבר מסוים מתקבל ע"י החלפת המונה במכנה.

שאלות:

(1) חשב את ערכי הביטויים הבאים:

$\frac{2}{9} \cdot \frac{8}{10}$ ג.	$\frac{2}{7} \cdot \frac{5}{6}$ ב.	$\frac{3}{5} \cdot \frac{3}{4}$ א.
$\frac{12}{25} \cdot 5$ ו.	$6 \cdot \frac{2}{3}$ ה.	$3 \cdot \frac{4}{5}$ ד.
$3\frac{3}{7} \cdot 2\frac{2}{5}$ ט.	$3\frac{1}{2} \cdot 4\frac{2}{5}$ ח.	$1\frac{3}{5} \cdot 2\frac{1}{4}$ ז.
$\frac{4^3}{5}$ יב.	$\frac{4}{5^3}$ יא.	$\left(\frac{4}{5}\right)^3$ י.

(2) חשב את ערכי הביטויים הבאים:

$\frac{3}{25} : \frac{7}{10}$ ג.	$\frac{3}{4} : \frac{1}{2}$ ב.	$\frac{2}{5} : \frac{4}{9}$ א.
$\frac{5}{6} : 3$ ו.	$10 : \frac{2}{3}$ ה.	$8 : \frac{2}{9}$ ד.
$2\frac{2}{5} : 1\frac{3}{15}$ ט.	$3\frac{3}{4} : 5\frac{5}{8}$ ח.	$\frac{2}{5} : 5$ ז.

תשובות סופיות:

ג. $\frac{8}{45}$	ד. $2\frac{2}{5}$	ה. 4	ו. $2\frac{2}{5}$	ז. $\frac{9}{20}$	ח. $\frac{5}{21}$	ט. $12\frac{4}{5}$	י. $\frac{64}{125}$	יא. $\frac{4}{125}$	יב. $12\frac{4}{5}$	(1)
ג. $\frac{6}{35}$	ד. 36	ה. 15	ו. $\frac{5}{18}$	ז. $\frac{9}{10}$	ח. $1\frac{1}{2}$	ט. 2	י. $\frac{2}{25}$	יא. $\frac{2}{3}$	יב. $\frac{2}{3}$	(2)

חיבור וחסור שברים:

סיכום כללי:

כפולה משותפת מינימלית:

בהינתן זוג מספרים a ו- b , המספר הקטן ביותר אשר תוצאת חלוקתו במספרים הנ"ל מניבה מספר שלם נקרא הכפולה המינימלית שלהם.

הערות:

- כפולה מינימלית יכולה להיות גם עבור יותר משני מספרים.
- הכפולה המינימלית תהיה המכנה המשותף בעת פעולות חיבור וחסור של שברים.

כללי החיבור והחסור של שברים:

- חיבור וחסור של שברים בעלי אותו המכנה מתבצע על המספרים שבמונה בלבד כאשר המכנה נשאר כפי שהוא.

$$\text{דוגמא: } \frac{2}{7} - \frac{3}{7} = \frac{2-3}{7} = \frac{-1}{7}, \quad \frac{2}{7} + \frac{3}{7} = \frac{2+3}{7} = \frac{5}{7}$$

- חיבור וחסור של שברים בעלי מכנים שונים מתבצע ע"י פעולת מכנה משותף.

$$\text{דוגמא: } \frac{1}{4} - \frac{5}{6} = \frac{3}{12} - \frac{10}{12} = \frac{3-10}{12} = -\frac{7}{12}, \quad \frac{2}{5} + \frac{1}{3} = \frac{6}{15} + \frac{5}{15} = \frac{6+5}{15} = \frac{11}{15}$$

- חיבור של שבר עם מספר שלם יתבצע באופן ישיר.

$$\text{דוגמא: } 3 + \frac{1}{4} = 3\frac{1}{4}$$

חסור של שבר ממספר שלם יתבצע ע"י הוצאת שלמים מהשבר.

$$\text{דוגמא: } 3 - \frac{1}{4} = 2\frac{4}{4} - \frac{1}{4} = 2\frac{3}{4}$$

דרך נוספת היא ע"י העברת המספר השלם לשבר מדומה: $3 - \frac{1}{4} = \frac{12}{4} - \frac{1}{4} = \frac{11}{4} = 2\frac{3}{4}$

- חיבור וחסור של שברים מעורבים יתבצע ע"י העברתם לשברים מדומים תחילה.

$$\text{דוגמא: } 3\frac{2}{5} + 2\frac{1}{6} = \frac{17}{5} + \frac{13}{6} = \frac{17 \cdot 6}{30} + \frac{13 \cdot 5}{30} = \frac{102 + 65}{30} = \frac{167}{30} = 5\frac{17}{30}$$

ניתן גם לפצל ולבצע את פעולת החיבור (או החיסור) של המספרים השלמים תחילה, ולאחר מכן לבצע את הפעולה עבור השברים.

$$\text{דוגמא: } 2\frac{3}{4} - 5\frac{1}{3} = (2 - 5) + \left(\frac{3}{4} - \frac{1}{3}\right) = -3 + \left(\frac{9}{12} - \frac{4}{12}\right) = -3 + \frac{5}{12} = -2\frac{7}{12}$$

שאלות:

- (1) מצא את הכפולה המשותפת המינימלית של המספרים הבאים:

א. 2 ו-3	ב. 2 ו-4	ג. 3 ו-5	ד. 6 ו-10
ה. 4 ו-10	ו. 4 ו-6	ז. 3, 5 ו-10	ח. 2, 3 ו-8

- (2) חשב את ערכי הביטויים הבאים:

א. $\frac{1}{5} + \frac{3}{5}$	ב. $\frac{5}{9} + \frac{2}{9}$
ג. $\frac{4}{13} + \frac{9}{13}$	ד. $\frac{7}{8} + \frac{7}{8}$
ה. $\frac{7}{8} - \frac{3}{8}$	ו. $\frac{8}{9} - \frac{7}{9}$
ז. $\frac{2}{12} - \frac{5}{12}$	ח. $\frac{2}{5} - \frac{6}{5}$
ט. $\frac{2}{8} + \frac{5}{8} + \frac{6}{8}$	י. $\frac{7}{15} + \frac{8}{15} - \frac{6}{15}$

(3) חשב את ערכי הביטויים הבאים:

א. $\frac{1}{2} + \frac{4}{3}$

ב. $\frac{3}{5} + \frac{1}{10}$

ג. $\frac{4}{6} - \frac{1}{12}$

ד. $\frac{3}{6} - \frac{5}{8}$

ה. $\frac{5}{4} + \frac{7}{2} + \frac{2}{8}$

ו. $\frac{7}{3} + \frac{6}{5} + \frac{3}{10}$

ז. $\frac{4}{7} - \frac{1}{6} + \frac{1}{2}$

ח. $\frac{1}{4} + \frac{2}{8} - \frac{3}{5}$

(4) חשב את ערכי הביטויים הבאים:

א. $2 + \frac{5}{6}$

ב. $2 - \frac{5}{6}$

ג. $2\frac{1}{4} + \frac{5}{6}$

ד. $2\frac{1}{4} - \frac{5}{6}$

ה. $3\frac{2}{3} + 4\frac{1}{4}$

ו. $5\frac{7}{8} - 6\frac{1}{2}$

ז. $2 + \frac{5}{6} - \frac{1}{9}$

ח. $\frac{3}{4} - 1\frac{1}{5} + \frac{8}{20}$

(5) חשב את ערכי הביטויים הבאים:

א. $\frac{1}{2} \cdot \left(1 - \frac{3}{4}\right) + 2\frac{1}{3}$

ב. $\frac{3}{14} : \frac{2}{7} + \frac{1}{3} \cdot 2\frac{1}{4} - \frac{2}{5}$

ג. $\frac{5}{11} \cdot 2\frac{3}{4} - 6 : \frac{2}{5}$

ד. $2\frac{4}{5} : \frac{9}{10} \cdot \frac{6}{7} + \frac{1}{6}$

ה. $\frac{5}{6} : \frac{3}{4} + \frac{2}{3} \cdot 3\frac{1}{4}$

תשובות סופיות:

12 .ג	20 .ה	30 .ד	15 .ג	4 .ב	6 .א (1
				24 .ח	30 .ז
$\frac{1}{9}$.ג	$\frac{1}{2}$.ה	$1\frac{3}{4}$.ד	1 .ג	$\frac{7}{9}$.ב	$\frac{4}{5}$.א (2
		$\frac{3}{5}$.י	$1\frac{5}{8}$.ט	$-\frac{4}{5}$.ח	$-\frac{1}{4}$.ז
$3\frac{5}{6}$.ג	5 .ה	$-\frac{1}{8}$.ד	$\frac{7}{12}$.ג	$\frac{7}{10}$.ב	$1\frac{5}{6}$.א (3
				$-\frac{1}{10}$.ח	$\frac{19}{21}$.ז
$-\frac{5}{8}$.ג	$7\frac{11}{12}$.ה	$1\frac{5}{12}$.ד	$3\frac{1}{12}$.ג	$1\frac{1}{6}$.ב	$2\frac{5}{6}$.א (4
				$-\frac{1}{20}$.ח	$2\frac{13}{18}$.ז
	$3\frac{5}{18}$.ה	$2\frac{5}{6}$.ד	$-13\frac{3}{4}$.ג	$1\frac{1}{10}$.ב	$2\frac{11}{24}$.א (5

בעיות יסודיות באחוזים:

סיכום כללי:

נוסחה לביצוע חישובים עם אחוזים:

$$\text{תמורת האחוז} = \text{שלם} \cdot \frac{\text{אחוז}}{100}$$

למשל, בהינתן גודל שלם 120, אשר יש לחשב כמה הם 40 אחוזים ממנו, נקבל לפי הנוסחה: $48 = \frac{40}{100} \cdot 120$, כלומר: **תמורת האחוז 40 מהגודל 120 היא 48.**

שאלות:

- (1) בכיתה 30 תלמידים. 60% מתוכם בנות.
 - א. כמה בנות בכיתה?
 - ב. כמה בנים בכיתה?
- (2) בכיתה 28 בנות המהוות 70% מכלל התלמידים בכיתה.
 - א. כמה תלמידים בכיתה?
 - ב. כמה בנים בכיתה?
- (3) מחיר בגד-ים הוא 300 ₪. בסוף העונה הוא נמכר ב-20% הנחה.
 - א. מהו מחירו בסוף העונה?
 - ב. מה גודל ההנחה?
- (4) מחיר ההשקה של בושם מסוים הוא 500 ₪. לאחר מכן מועלה מחירו ב-8%.
 - א. מה מחירו הסופי?
 - ב. מה גודל ההתייקרות?
- (5) מחיר ליטר דלק הוא 5 ₪ לליטר. בחנוכה מוזל מחירו ב-7%.
 - א. מה מחירו בסוף השנה?
 - ב. מה גודל התייקרות?
- (6) מוצר מסויים מתייקר בסוכות ב-12%. בפורים מוזל המוצר ב-12%.
 - א. מה מחירו בסוף השנה?
 - ב. מה גודל התייקרות?

7) ענה על השאלות הבאות:

- א. באולם קולנוע 200 צופים, מתוכם 176 בנים.
מה אחוז הבנים בקהל?
- ב. בכיתה 30 תלמידים, מתוכם 18 בנות.
מה אחוז הבנות בכיתה?
- ג. מחיר מוצר התייקר מ-80 ₪ ל-120 ₪.
בכמה אחוזים התייקר המוצר?
- ד. מחיר מוצר הוזל מ-120 ₪ ל-80 ₪.
בכמה אחוזים הוזל המוצר?
- ה. מחיר מוצר התייקר מ-150 ₪ ל-200 ₪.
בכמה אחוזים התייקר המוצר?
- ו. מחיר מוצר הוזל מ-200 ₪ ל-150 ₪.
בכמה אחוזים הוזל המוצר?

תשובות סופיות:

- 1) א. 18 בנות. ב. 12 בנים.
- 2) א. 40 תלמידים. ב. 12 בנים.
- 3) א. 240 ₪. ב. 60 ₪.
- 4) א. 540 ₪. ב. 40 ₪.
- 5) 4.9755 ₪.
- 6) 400 ₪.
- 7) א. 88% ב. 60% ג. 50% ד. 33.33% ה. 33.33% ו. 25%

חזרה על תבניות מספר:

סיכום כללי:

משתנה הוא סמל המתאר כמות או גודל כלשהם אשר אינם ידועים ועשויים להשתנות.

תבנית מספר היא ביטוי אלגברי אשר מכיל משתנה (או משתנים). ניתן להציב במשתנים ערכים מספריים שונים ולקבל תוצאות שונות עבור תבנית המספר עצמה.

במתמטיקה, תפקידה של תבנית המספר הוא להביע גודל מסוים אשר לערכו יש משמעויות שונות. דוגמא לכך היא: קנייה של x פריטים, אשר כל אחד עולה 3 שקלים, יניבו תבנית מספר של $3 \cdot x$ אשר מייצגת את הסכום הכולל של הפריטים.

שאלות:

(1) חשב את ערכי הביטויים האלגבריים הבאים עבור ה- x הנתון:

א. $2x+5$ כאשר $x=3$ ב. x^2+3x כאשר $x=2$

ג. $-x^2+2x+3$ כאשר $x=5$ ד. $-x^2-9x+5$ כאשר $x=5$

ה. x^3+1 כאשר $x=-2$ ו. $4-x^3$ כאשר $x=-1$

ז. $(x+1)(2-x)$ כאשר $x=4$ ח. $x^2(3x-4)$ כאשר $x=3$

(2) חשב את ערכי הביטויים האלגבריים הבאים עבור ה- x הנתון:

א. $27x^5-2x^3+x$ כאשר $x=\frac{1}{3}$

ב. $\frac{1}{3}x^2+\frac{1}{2}x+6$ כאשר $x=-\frac{2}{3}$

3) הצב את הערכים המספריים במקום הפרמטרים וחשב את ערך תבנית המספר:

- | | |
|----------------------------------|---|
| א. $a^2 + 2ab + b^2$ | עבור: $a = 3, b = -5$ |
| ב. $(x-3)^2 + 3x^2b$ | עבור: $x = 5, b = -1$ |
| ג. $-x^3 - 2xy + y^4$ | עבור: $x = -2, y = -1$ |
| ד. $\frac{(a-2c)^4}{a} - a^2$ | עבור: $a = 2, c = -2$ |
| ה. $\frac{4a^2 - 3b}{c}$ | עבור: $a = -1, b = 2, c = -4$ |
| ו. $\sqrt{c-3a}$ | עבור: $c = 13, a = -1$ ועבור: $c = 82, a = \frac{1}{3}$ |
| ז. $\frac{p^3 + 2\sqrt{q+1}}{m}$ | עבור: $p = -5, q = 48, m = 3$ |

תשובות סופיות:

- | | | | | | |
|---------------------------------|--------------------|--------|--------|------------------|------|
| 11 א. (1) | 10 ב. | ג. -12 | ד. -65 | ה. -7 | ו. 5 |
| ז. -10 | ח. 45 | | | | |
| 10 א. (2) | ב. $\frac{22}{27}$ | | | | |
| 4 א. (3) | ב. -71 | ג. 5 | ד. 644 | ה. $\frac{1}{2}$ | |
| ו. הצבה ראשונה: 4, הצבה שניה: 9 | ז. -37 | | | | |

כינוס איברים:

סיכום כללי:

תבניות אלגבריות יכולות להכיל איברים רבים ולכן נרצה לכנס אותם על מנת לפשט את התבנית. כדי לכנס איברים ניקח את כל קבוצת האיברים מאותו הסוג ונחבר את המקדמים שלהם. דוגמא: $3x + 6x - 5x = (3 + 6 - 5)x = 4x$.
 איברים שונים נבדלים זה מזה בערך התבנית האלגברית שלהם.
 כך: $3x$ שונה מ- $4y$ ושונה מ- $2xy$. באותו האופן, האיברים x ו- x^2 הם שונים.

שאלות:

כנס איברים דומים:

- | | |
|---|--|
| $9x^2 - 2x^2 - 3x^2 - 2x^2$ (2) | $5x + 7x - 4x$ (1) |
| $x^2y - 3yx^2 + x^2y$ (4) | $-10xy + 15xy + xy - 2yx$ (3) |
| $2x^2 - 3m^2 - x^2 + 3m^2$ (6) | $8a^2 + 10a - 5a^2 - 11a + a^2$ (5) |
| $mn^2 + 4m^2n + 6n^2m - 10nm^2 + mn^2$ (8) | $3xy + y - 30y + 6yx - 7y$ (7) |
| $y^2 + x^2 - 5x^2 + 5y^2 + 4x^2 - 6y^2$ (10) | $-6 + x^3 + 4 - 3x^3 + 17x^3 - 17$ (9) |
| $5xy + 2x - 3yx - x + 1$ (12) | $7x^2 - 3x - 4x + 2$ (11) |
| $x + xy + y - 6yx - 6y - 6x$ (14) | $3 - x - x^2 + 4x + 5x^2 - 12$ (13) |
| $ab^2 + 6ba^2 - 6b + 16a^2b + 3b - 6b^2a$ (16) | $mn + n - 5m + 5nm - 14n + 3m$ (15) |
| $4x^2z + 6xz^2 - 6 - xz^2 + 12 + 10zx^2$ (18) | $z^3 - 4z^2 + 7 - z^3 - 8 + 8z^2$ (17) |
| $x^3 - 3x - 4x^2 + 2x + x^3 + x^2 - 2x^3$ (20) | $2 - x^3 - 3 - 4x^2 + 2x + x^3 + x^2 - 2$ (19) |
| $12x^2y^3 + 13a^2 - 20x^2y^3 + 2a^2$ (22) | $2a^2b + 3x^2y + 5a^2b + 10x^2y$ (21) |
| $-2x^3y + 5x^2 - 4yx^3 - 6x^2$ (24) | $2y^2 - 4x^3y^2 - 10y^2 - x^3y^2$ (23) |
| $5a^2b - 8ab^2 + 20a^2b - 14ab^2$ (26) | $2a^2b + 2b + 3a^2 + 5b$ (25) |
| $-12x^2 + 2y^2 + 3x^2y + 14xy^2 - 5xy^2 - 6y^2 + 2xy + 11x^2 + x^2y - 9xy$ (27) | |
| $21x^3y^3 + x^2y^2 - 3xy^3 + x^3y - 15x^2y^2 - 7x^3y + 12x^3y^3 - 4xy^3 + 4xy^3 - 6x^3y$ (28) | |

תשובות סופיות:

- | | | |
|---------------------------|------------------------|---|
| $4xy$ (3) | $2x^2$ (2) | $8x$ (1) |
| x^2 (6) | $4a^2 - a$ (5) | $-x^2y$ (4) |
| $15x^3 - 19$ (9) | $8mn^2 - 6nm^2$ (8) | $9xy - 36y$ (7) |
| $2xy + x + 1$ (12) | $7x^2 - 7x + 2$ (11) | 0 (10) |
| $-13n - 2m + 6mn$ (15) | $-5x - 5y - 5xy$ (14) | $4x^2 + 3x - 9$ (13) |
| $14x^2z + 5xz^2 + 6$ (18) | $4z^2 - 1$ (17) | $-5ab^2 + 22a^2b - 3b$ (16) |
| $7a^2b + 13x^2y$ (21) | $-3x^2 - x$ (20) | $-3x^2 + 2x - 3$ (19) |
| $-6x^3y - x^2$ (24) | $-8y^2 - 5x^3y^2$ (23) | $-8x^2y^3 + 15a^2$ (22) |
| | $25a^2b - 22ab^2$ (26) | $2a^2b + 3a^2 + 7b$ (25) |
| | | $-x^2 - 4y^2 + 4x^2y + 9xy^2 - 7xy$ (27) |
| | | $33x^3y^3 - 14x^2y^2 - 3xy^3 - 12x^3y$ (28) |

פישוט ביטויים ע"י פתיחת סוגריים:

סיכום כללי:

בעת ביצוע כפל בין שני איברים יש לכפול את המקדמים בנפרד ואת האותיות (משתנים) בנפרד.

כלל הפילוג:

$$\bullet a(b+c) = ab+ac$$

$$\bullet (a+b)(c+d) = ac+ad+bc+bd$$

שאלות:

(1) פשט את הביטויים הבאים:

א. $2x \cdot 3x$	ב. $-4x \cdot (-7x)$	ג. $-2x \cdot (-4x) \cdot (-3)$
ד. $8m^2 \cdot 4m^3$	ה. $3a^3 \cdot (-2a^2)$	ו. $-b \cdot 4b^2 \cdot \frac{b^2}{2}$
ז. $a \cdot 3b$	ח. $4a^2 \cdot 7b^2$	ט. $ab \cdot (-2a^2b)$

(2) פשט את הביטויים הבאים ע"י פתיחת סוגריים:

א. $2(3x-4)$	ב. $2(-3x^2+5x-1)$
ג. $(7x-2)4$	ד. $(1-2x)(-2)$
ה. $a(3a-1)$	ו. $b(b^2-3b+4)$
ז. $2x(5x+3)$	ח. $5x(x^2+2x-3)$
ט. $3t^2(4t-t^2+6)$	י. $\frac{5}{2}(4d^4-3d)d$

(3) פשט את הביטויים הבאים:

א. $5x+(3x-2)+(-4-2x)$	ב. $7x+(-4x-5)+3x+(-1+7x)$
ג. $8-(2x-5)-(4x+2)$	ד. $-6x-(-3x-1)-(-7-4x)+1$

$$\text{ה. } (3-2x^2+4)2+3(x-x^2)-6(7-5x)+4x^2$$

$$\text{ו. } 3y^2-(y+1-2y^2)+6(5y-6)-(-y-4)3+5(y^2+1)-7$$

4 פשט את הביטויים הבאים :

$$\text{א. } (x-1)(x+2) \quad \text{ב. } (x+3)(x-7)$$

$$\text{ג. } (3-x)(x+4) \quad \text{ד. } (3x+4)(5x+1)$$

$$\text{ה. } 3(4x+1)(2x-3) \quad \text{ו. } -2(3x-1)(5-2x)$$

5 פשט את ערכי הביטויים הבאים :

$$\text{א. } (x-1)(x+3)+2(3-x)$$

$$\text{ב. } (a+4)(a-2)-(a+5)(a-3)$$

$$\text{ג. } (2m-3)(4m+3)+5(2m^2-6)$$

$$\text{ד. } -x^2y^2(x^3y+x^2)+2xy(2x^3y-x^4y^2)$$

תשובות סופיות:

$$\text{(1) א. } 6x^2 \quad \text{ב. } 28x^2 \quad \text{ג. } -24x^2 \quad \text{ד. } 32m^5 \quad \text{ה. } -6a^5 \quad \text{ו. } -2b^5$$

$$\text{ז. } 3ab \quad \text{ח. } 28a^2b^2 \quad \text{ט. } -2a^3b^2$$

$$\text{(2) א. } 6x-8 \quad \text{ב. } -6x^2+10x-2 \quad \text{ג. } 28x-8 \quad \text{ד. } -2+4x$$

$$\text{ה. } 3a^2-a \quad \text{ו. } b^3-3b^2+4b \quad \text{ז. } 10x^2+6x \quad \text{ח. } 5x^3+10x^2-15x$$

$$\text{ט. } 12t^3-3t^4+18t^2 \quad \text{י. } 10d^5-7.5d^2$$

$$\text{(3) א. } 6x-6 \quad \text{ב. } 13x-6 \quad \text{ג. } -6x+11 \quad \text{ד. } x+9 \quad \text{ה. } -3x^2+33x-28$$

$$\text{ו. } 10y^2+32y-27$$

$$\text{(4) א. } x^2+x-2 \quad \text{ב. } x^2-4x-21 \quad \text{ג. } -x^2-x+12$$

$$\text{ד. } 15x^2+23x+4 \quad \text{ה. } 24x^2-30x-9 \quad \text{ו. } 12x^2-34x+10$$

$$\text{(5) א. } x^2+3 \quad \text{ב. } 7 \quad \text{ג. } 18m^2-6m-39 \quad \text{ד. } -3x^5y^3+3x^4y^2$$

פישוט ביטויים באמצעות נוסחאות הכפל המקוצר:

סיכום כללי:

- נוסחת ריבוע של סכום/הפרש: $(a \pm b)^2 = a^2 \pm 2ab + b^2$.
- נוסחה להפרש ריבועים: $(a+b)(a-b) = a^2 - b^2$.

שאלות:

(1) פשט את הביטויים הבאים:

א. $(x+5)^2$	ב. $(x+2)^2$	ג. $(4x+5)^2$
ד. $(6x+2)^2$	ה. $(7x+y)^2$	ו. $(5x+2y)^2$
ז. $(x^2+7)^2$	ח. $(x^2+y^2)^2$	ט. $(x^3+2y^2x)^2$

(2) פשט את הביטויים הבאים:

א. $(x-6)^2$	ב. $(x-2)^2$	ג. $(5-x)^2$
ד. $(6x-1)^2$	ה. $\left(3x-\frac{1}{2}\right)^2$	ו. $\left(\frac{1}{3}x-5\right)^2$
ז. $(3m-2n)^2$	ח. $\left(x^2-\frac{3}{5}y\right)^2$	ט. $(x^2y^2-7)^2$

(3) פשט את הביטויים הבאים:

א. $(x-5)(x+5)$	ב. $(3+x)(x-3)$
ג. $(3x-1)(3x+1)$	ד. $(5-7x)(7x+5)$
ה. $\left(\frac{1}{2}x+6\right)\left(\frac{1}{2}x-6\right)$	ו. $\left(5y-\frac{1}{4}x\right)\left(\frac{1}{4}x+5y\right)$
ז. $(x^2+y)(x^2-y)$	ח. $(3a^2b^3-4)(3a^2b^3+4)$

4 פשט את הביטויים הבאים :

א. $(x+1)(x+2)-3x$	ב. $(x-5)(5x-1)+2(4+x)$
ג. $x(2x-1)(2x+1)-4x^2(x+1)$	ד. $-(y+3x)(y-3x)+(y-3x)^2$
ה. $x(x+3)-(6+x)(6x+2)-(x+2)^2$	
ו. $-5(x+7)(x-7)+3(2x+5)(5-x)+(x+1)^2$	

תשובות סופיות:

א. $x^2+10x+25$	ב. x^2+4x+4	ג. $16x^2+40x+25$	1
ד. $36x^2+24x+4$	ה. $49x^2+14xy+y^2$	ו. $25x^2+20xy+4y^2$	
ז. $x^4+14x+49$	ח. $x^4+2x^2y^2+y^4$	ט. $x^6+4x^4y^2+4y^4x^2$	
א. $x^2-12x+36$	ב. x^2-4x+4	ג. $25-10x+x^2$	2
ד. $36x^2-12x+1$	ה. $9x^2-3x+\frac{1}{4}$	ו. $\frac{1}{9}x^2-3\frac{1}{3}x+25$	
ז. $9m^2-12mn+4n^2$	ח. $x^4-\frac{6}{5}x^2y+\frac{9}{25}y^2$	ט. $x^4y^4-14x^2y^2+49$	
א. x^2-25	ב. x^2-9	ג. $9x^2-1$	3
ד. $\frac{1}{4}x^2-36$	ה. $25y^2-\frac{1}{16}x^2$	ו. x^4-y^2	
א. x^2+2	ב. $5x^2-24x+13$	ג. $-4x^2-x$	4
ד. $18x^2-6xy$	ה. $-6x^2-39x-16$	ו. $-10x^2+17x+321$	

פירוק לגורמים של ביטויים אלגבריים:

סיכום כללי:

פירוק לגורמים הוא פעולה הפוכה לפתיחת סוגריים – נרצה להוציא את הגורמים המשותפים לאיברים מחוץ לסוגריים.

- פירוק לגורמים ע"י הוצאת איבר אחד משותף:

○ הוצאת מספר משותף: $2x - 8 = 2(x - 4)$

○ הוצאת אות משותפת: $x^2 - 12x = x(x - 12)$

○ הוצאת מספר ואות יחד: $3x^2 - 21x = 3x(x - 7)$

- פירוק לגורמים ע"י נוסחאות הכפל המקוצר:

○ נוסחת הבינום של ניוטון: $a^2 \pm 2ab + b^2 = (a \pm b)^2$

○ נוסחה להפרש ריבועים: $a^2 - b^2 = (a + b)(a - b)$

שאלות:

- (1) פשט את הביטויים הבאים ע"י הוצאת גורם משותף:

א. $3x - 12$ ב. $6y - 4$

ג. $20 - 8a$ ד. $4a^3 + 8b$

ה. $75m^2 + 25m + 15$ ו. $40a^2 - 8b^2 + 64c^2$

- (2) פשט את הביטויים הבאים ע"י הוצאת גורם משותף:

א. $y^2 + 5y$ ב. $3x - 11x^3$

ג. $6y^2 + 5y^3 + 4y$ ד. $\frac{1}{2}a^7 - \frac{1}{4}a^5 + a^3$

3 פשט את הביטויים הבאים ע"י הוצאת גורם משותף :

א. $2x^2 - 8x$	ב. $3t^2 + 12t$
ג. $5n^3 - 20n^2 + 50n$	ד. $8y^2 + 6y^3 - 2y^4$
ה. $4x^2y^2 + 16x^2y - 20xy^2$	ו. $27mn - 3n^2m + 9n^3m$

4 פשט את הביטויים הבאים ע"י שימוש בנוסחאות הכפל המקוצר :

א. $x^2 + 10x + 25$	ב. $x^2 + 12x + 36$
ג. $y^2 - 18y + 81$	ד. $y^2 - 22y + 121$
ה. $4x^2 + 4x + 1$	ו. $16y^2 - 8y + 1$
ז. $9x^2 - 24x + 16$	ח. $25x^2 + 70x + 49$

5 פשט את הביטויים הבאים ע"י שימוש בנוסחאות הכפל המקוצר :

א. $r^2 - 25$	ב. $x^2 - 81$
ג. $25y^2 - 49$	ד. $121x^2 - 1$
ה. $x^2y^2 - 4$	ו. $9y^4 - 169x^4$

6 פשט את הביטויים הבאים ע"י הוצאת גורם משותף ונוסחאות הכפל המקוצר :

א. $y - y^3$	ב. $x^3 - 10x^2 + 25x$
ג. $m^4 - 1$	ד. $196x^4 - 140x^3 + 25x^2$

תשובות סופיות:

- א. $3(x-4)$ ב. $2(3y-2)$ ג. $4(5-2a)$ (1)
- ד. $4(a^3+2b)$ ה. $5(15m^2+5m+3)$ ו. $8(5a^2-b^2+8c^2)$
- א. $y(y+5)$ ב. $x(3-11x^2)$ ג. $y(6y+5y^2+4)$ (2)
- ד. $a^3\left(\frac{1}{2}a^4-\frac{1}{4}a^2+1\right)$
- א. $2x(x-4)$ ב. $3t(t+4)$ ג. $5n(n^2-4n+10)$ (3)
- ד. $2y^2(4+3y-y^2)$ ה. $4xy(xy+4x-5y)$ ו. $3mn(9-n-3n^2)$
- א. $(x+5)^2$ ב. $(x+6)^2$ ג. $(y-9)^2$ ד. $(y-11)^2$ (4)
- ה. $(2x+1)^2$ ו. $(4y-1)^2$ ז. $(3x-4)^2$ ח. $(5x+7)^2$
- א. $(r+5)(r-5)$ ב. $(x+9)(x-9)$ ג. $(5y+7)(5y-7)$ (5)
- ד. $(11x+1)(11x-1)$ ה. $(xy+2)(xy-2)$ ו. $(3y^2+13x^2)(3y^2-13x^2)$
- א. $y(1+y)(1-y)$ ב. $x(x-5)^2$ ג. $(m^2+1)(m+1)(m-1)$ (6)
- ד. $x^2(14x-5)^2$

פירוק הטרינום:

סיכום כללי:

טרינום משמעו תלת איבר מהצורה: $ax^2 + bx + c$ כאשר a, b, c הם מספרים כלשהם.

שיטת הטרינום מאפשרת לפרק את תלת האיבר ל-4 איברים ע"י פיצול האיבר bx לשני איברים באופן כזה שמאפשר להוציא גורם משותף.

הכלל הוא למצוא שני מספרים, m_1 ו- m_2 , שמקיימים: $m_1 \cdot m_2 = ac$ ו- $m_1 + m_2 = b$.
 לאחר מכן ניתן לפרק את הטרינום: $ax^2 + bx + c = ax^2 + m_1x + m_2x + c$.
 השלב האחרון הוא הוצאת גורם משותף מכל זוג: $\underbrace{ax^2 + m_1x} + \underbrace{m_2x + c}$.

הערה:

במקרה שנוסחת השורשים ידועה, ניתן להיעזר בה כדי למצוא את המספרים m_1 ו- m_2 באופן

הבא: $m_1 = \frac{-b + \sqrt{b^2 - 4ac}}{2a}$, $m_2 = \frac{-b - \sqrt{b^2 - 4ac}}{2a}$ ולאחר מכן ניתן לכתוב את הטרינום

כמכפלה: $ax^2 + bx + c = a(x - m_1)(x - m_2)$. אם קיים פתרון (שורש) אחד $m_1 = m_2 = \frac{-b}{2a}$ אז

נכתוב: $ax^2 + bx + c = a(x - m_1)^2$ ואם לא קיימים פתרונות אז לא קיים פירוק כלל.

שאלות:

(1) פרק את הביטויים הבאים לפי פירוק טרינום:

- | | | |
|---------------------|---------------------|---------------------|
| א. $x^2 + 5x + 4$ | ב. $x^2 - 8x + 15$ | ג. $x^2 - 33x + 62$ |
| ד. $2x^2 + 7x - 15$ | ה. $3x^2 - 11x + 6$ | ו. $6x^2 + 5x + 1$ |
| ז. $2x^2 + x - 6$ | ח. $x^2 - 18x + 81$ | ט. $x^2 + 2x + 8$ |

(2) פרק את הביטויים הבאים ע"י שימוש בנוסחת השורשים.

הערה: במידה ולא למדת על נוסחת השורשים התעלם משאלה זו.

- | | |
|----------------------|--------------------|
| א. $6x^2 + 5x + 1$ | ב. $x^2 + 5x + 4$ |
| ג. $4x^2 + 20x + 25$ | ד. $3x^2 - x + 20$ |

תשובות סופיות:

$$(1) \quad \text{א. } (x+1)(x+4) \quad \text{ב. } (x-3)(x-5) \quad \text{ג. } (x-2)(x-31)$$

$$\text{ד. } (2x-3)(x+5) \quad \text{ה. } (3x-2)(x-3) \quad \text{ו. } (3x+1)(2x+1)$$

$$\text{ז. } (x+2)(2x-3) \quad \text{ח. } (x-9)^2 \quad \text{ט. אין פירוק.}$$

$$(2) \quad \text{א. } 6\left(x+\frac{1}{3}\right)\left(x+\frac{1}{2}\right) \quad \text{ב. } (x+1)(x+4) \quad \text{ג. } (2x+5)^2 \quad \text{ד. אין פירוק.}$$

שברים אלגברים:

סיכום כללי:

הגדרה:

שבר אלגברי מורכב משתי תבניות, אשר אחת מחלקת את השנייה.

$$\text{דוגמא לשברים אלגבריים: } \frac{x+1}{x+2}, \frac{3x}{x^2+1}, \frac{4}{x-x^3}$$

במקרה בו המכנה הוא מספר, לא מדובר בשבר אלגברי מכיוון שניתן לכתוב את

$$\text{הביטוי ללא צורך בחילוק בין ביטויים שונים כגון: } \frac{3x+5}{4} = \frac{3}{4}x + \frac{5}{4}$$

תחום הגדרה של שבר:

היות ושבר אלגברי הוא תבנית אשר יכולה לקבל ערכים שונים בעת הצבות שונות, חשוב להגביל את המספרים שניתן להציב באופן כזה שלא תתקבל חלוקה באפס.

$$\text{דוגמא: השבר } \frac{1}{x+4} \text{ לא מוגדר כאשר } x = -4 \text{ מכיוון שמתקבל: } \frac{1}{0}$$

במקרים אלו נדרוש **תנאי** על המשתנה אשר יכתב באופן הבא: $x \neq -4$ ומשמעו היא ש- x יכול לקבל על ערך מספרי אפשרי למעט -4, מכיוון שבמקרה זה השבר לא מוגדר.

כלל צמצום שברים אלגברים:

ניתן לצמצם שברים אלגברים ע"י הבאת המונה והמכנה למכפלה של ביטויים. במידה וקיימות פעולות החיבור והחיסור בין איברים שונים לא ניתן לבצע צמצום של איברים דומים בין המונה והמכנה. להלן מספר דוגמאות הנוגעות לצמצומים:

$$\bullet \text{ צמצום ע"י הוצאת גורם משותף: } \frac{2x+8}{x+4} = \frac{2(x+4)}{x+4} = \frac{2 \cdot 1}{1} = 2$$

$$\bullet \text{ צמצום ע"י נוסחת כפל מקוצר: } \frac{3x-15}{x^2-10x+25} = \frac{3(x-5)}{(x-5)^2} = \frac{3 \cdot 1}{x-5} = \frac{3}{x-5}$$

$$\bullet \text{ צמצום ע"י פירוק טרינום: } \frac{x^2-2x-3}{x^2-3x-4} = \frac{(x+1)(x-3)}{(x+1)(x-4)} = \frac{x-3}{x-4}$$

שאלות:

(1) מצא את תחום ההגדרה של השברים האלגבריים הבאים:

$\frac{5}{x-6}$.ב.	$\frac{x+4}{x+3}$.א.
$\frac{x^2+1}{x^2-4x}$.ד.	$\frac{x+7}{2x-8}$.ג.
$\frac{x^2}{x^2-4}$.ו.	$\frac{3}{x^2+2x+1}$.ה.
$\frac{8x-2}{3x^3-15x^2+12x}$.ח.	$\frac{6}{y^4-y^2}$.ז.

(2) צמצם את השברים הבאים (במידה ולא ניתן צמצם הסבר מדוע):

$\frac{a-x}{a}$.ב.	$\frac{ax}{a}$.א.
$\frac{x+1}{y+1}$.ד.	$\frac{a-ax}{a}$.ג.
$\frac{6x}{6y}$.ו.	$\frac{x}{x+y}$.ה.
$\frac{x^2+y^2}{x^2y^2}$.ח.	$\frac{x^2y}{xy^2}$.ז.
$\frac{3x^2}{x^2+3}$.י.	$\frac{4x^2y}{xy}$.ט.

(3) צמצם את השברים הבאים ע"י הוצאת גורם משותף וכתוב את תחום הגדרתם:

$\frac{m^2+4m}{4m+16}$.ב.	$\frac{3x+12}{x+4}$.א.
$\frac{x^2-5x}{15-3x}$.ד.	$\frac{2a-12}{a^2-6a}$.ג.
$\frac{4x^3-2x^2}{6x-3}$.ו.	$\frac{3-18y^2}{6y^2-1}$.ה.
$\frac{3z^3-12z^2+4z}{z^2+5z}$.ח.	$\frac{3y}{y^3-3y^2}$.ז.

4) צמצם את השברים הבאים ע"י פירוק לגורמים וכתוב את תחום הגדרתם:

$\frac{8n - n^2}{n^2 - 16n + 64}$.ב.	$\frac{x^2 + 10x + 25}{2x + 10}$.א.
$\frac{4m^2 + 20m + 25}{4m^2 + 10m}$.ד.	$\frac{z^3 - 4z^2}{2z^2 - 16z + 32}$.ג.
$\frac{a^3 + 4a^2b + 4ab^2}{3ab + 6b^2}$.ו.	$\frac{18y^2 - 24y + 8}{2y - 3y^2}$.ה.

5) צמצם את השברים הבאים ע"י טרינום ריבועי וכתוב את תחום הגדרתם:

$\frac{m^2 - 12m + 32}{m - 4}$.ב.	$\frac{x + 2}{x^2 - 3x - 10}$.א.
$\frac{3z^2 + 26z + 16}{3z + 2}$.ד.	$\frac{4y - 10}{2y^2 + y - 15}$.ג.
$\frac{9n^2 - 12n}{4 + 5n - 6n^2}$.ו.	$\frac{x^2 + 5x - 36}{x^3 + 9x^2}$.ה.
$\frac{x^2 - 14x + 49}{x^2 + x - 56}$.ח.	$\frac{x^2 + 4x + 4}{x^2 + 5x + 6}$.ז.
$\frac{m^3n - m^2n^2 - m^2 + mn}{2m^2n^3 + mn^2 - 3n}$.י.	$\frac{3a^2b - 10ab^2 + 3b^3}{-3a^3b + 11a^2b^2 - 6ab^3}$.ט.

תשובות סופיות:

$$(1) \quad \text{א. } x \neq -3 \quad \text{ב. } x \neq 6 \quad \text{ג. } x \neq 4 \quad \text{ד. } x \neq 0, x \neq 4$$

$$\text{ה. } x \neq -1 \quad \text{ו. } x \neq -2, x \neq 2 \quad \text{ז. } y \neq 0, y \neq -1, y \neq 1$$

$$\text{ח. } x \neq 0, x \neq 1, x \neq 4$$

$$(2) \quad \text{א. } x \quad \text{ב. לא ניתן לצמצם} \quad \text{ג. } 1-x$$

$$\text{ד. לא ניתן לצמצם} \quad \text{ה. לא ניתן לצמצם} \quad \text{ו. } \frac{x}{y} \quad \text{ז. } \frac{x}{y}$$

$$\text{ח. לא ניתן לצמצם} \quad \text{ט. } 4x \quad \text{י. לא ניתן לצמצם}$$

$$(3) \quad \text{א. } x \neq -4, 3 \quad \text{ב. } \frac{m}{4}, m \neq -4 \quad \text{ג. } \frac{2}{a}, a \neq 0, 6$$

$$\text{ד. } -\frac{x}{3}, x \neq 5 \quad \text{ה. } -3, y \neq \pm \frac{1}{\sqrt{6}} \quad \text{ו. } \frac{2x^2}{3}, x \neq \frac{1}{2}$$

$$\text{ז. } \frac{3}{y(y-3)}, y \neq 0, 3 \quad \text{ח. } \frac{3z^2 - 12z + 4}{z+5}, z \neq 0, -5$$

$$(4) \quad \text{א. } \frac{x+5}{2}, x \neq -5 \quad \text{ב. } \frac{n}{8-n}, n \neq 8 \quad \text{ג. } \frac{z^2}{2(z-4)}, z \neq 4$$

$$\text{ד. } \frac{2m+5}{2m}, m \neq 0, -\frac{5}{2} \quad \text{ה. } \frac{2(2-3y)}{y}, y \neq 0, \frac{2}{3} \quad \text{ו. } \frac{a(a+2b)}{3b}, b \neq 0, a \neq -2b$$

$$(5) \quad \text{א. } \frac{1}{x-5}, x \neq 5, -2 \quad \text{ב. } m-8, m \neq 4 \quad \text{ג. } \frac{2}{y+3}, x \neq -3, \frac{5}{2}$$

$$\text{ד. } z+8, z \neq -\frac{2}{3} \quad \text{ה. } \frac{x-4}{x^2}, x \neq 0, -9 \quad \text{ו. } \frac{-3n}{2n+1}, n \neq -\frac{1}{2}, \frac{4}{3}$$

$$\text{ז. } \frac{x+2}{x+3}, x \neq -2, -3 \quad \text{ח. } \frac{x-7}{x+8}, x \neq 7, -8$$

$$\text{ט. } \frac{3a-b}{a(2b-3a)}, a \neq 0, b \neq 0, a \neq 3b, 2b \neq 3a \quad \text{י. } \frac{m(m-n)}{n(2mn+3)}, mn \neq 1, -\frac{3}{2}, n \neq 0$$

כפל וחילוק של שברים אלגברים:

סיכום כללי:

כפל שברים יתבצע ע"י הכפלת כל מונה בנפרד והכפלת כל מכנה בנפרד.
חילוק שברים יתבצע ע"י לקיחת ההופכי של שבר המחלק וביצוע פעולת כפל.

$$\bullet \text{ דוגמה לכפל שברים: } \frac{x+1}{x^2} \cdot \frac{x}{3x+3} = \frac{x+1}{x^2} \cdot \frac{x}{3(x+1)} = \frac{\cancel{x}(x+1)}{3x^{\cancel{2}}(x+1)} = \frac{1}{3x}$$

$$\bullet \text{ דוגמה לחילוק שברים: } \frac{4x}{y} : \frac{12}{y^2+y} = \frac{4x}{y} \cdot \frac{y^2+y}{12} = \frac{\cancel{4}x}{\cancel{12}} \cdot \frac{\cancel{y}(y+1)}{\cancel{12}_3} = \frac{x(y+1)}{3}$$

שאלות:

(1) פשט את הביטויים הבאים:

$$\text{א. } \frac{x}{3} \cdot \frac{x}{8} \quad \text{ב. } \frac{x}{3} \cdot \frac{9}{x^2}$$

$$\text{ג. } 7y \cdot \frac{5}{y^2} \quad \text{ד. } 6x^2 \cdot \frac{3}{40x}$$

$$\text{ה. } (x^2+3x) \cdot \frac{2}{3x+9} \quad \text{ו. } (a^2-25) \cdot \frac{20}{5a+25}$$

$$\text{ז. } \frac{w^2-9}{w} \cdot \frac{w^2}{2w+6} \quad \text{ח. } \frac{y+4}{y^2+16} \cdot \frac{y^2-16}{2y+8}$$

$$\text{ט. } \frac{z^2+30z+225}{6z+90} \cdot \frac{12}{2z-10} \quad \text{י. } \frac{5n^2}{n^2-121} \cdot \frac{2n^2+44n+242}{n+2} \cdot \frac{n^2+4n+4}{n}$$

(2) פשט את הביטויים הבאים:

א. $\frac{x}{8} : \frac{x}{6}$	ב. $\frac{y}{25} : \frac{5}{y}$
ג. $a^2 : \frac{1}{6a}$	ד. $\frac{5}{6a} : a^2$
ה. $(d^2 - 3d) : \frac{5d - 15}{5d}$	ו. $\frac{t}{t+4} : \frac{3t}{t+4}$
ז. $\frac{y^2 + 8y + 16}{8y^2} : \frac{y^2 - 16}{7y^2}$	ח. $\frac{a^2 - 64}{a^2 - 36} : \frac{a+8}{a+6}$

תשובות סופיות:

א. $\frac{x^2}{24}$	ב. $\frac{3}{x}$	ג. $\frac{35}{y}$	ד. $\frac{9x}{20}$	ה. $\frac{2x}{3}$	(1)
ו. $4(a-5)$	ז. $\frac{w(w-3)}{2}$	ח. $\frac{y^2 - 16}{2y^2 + 32}$	ט. $\frac{z+15}{z-5}$	י. $\frac{10n(n+11)(n+2)}{n-11}$	
א. $\frac{3}{4}$	ב. $\frac{y^2}{125}$	ג. $6a^3$	ד. $\frac{5}{6a^3}$	ה. d^2	ו. $\frac{1}{3}$
ז. $\frac{7(y+4)}{8(y-4)}$	ח. $\frac{a-8}{a-6}$				

חיבור וחיסור של שברים אלגבריים:

סיכום כללי:

ביצוע פעולת החיבור והחיסור תתבצע באופן זהה לשברים מספריים. נרצה להרחיב את השברים כך שהמכנה של שניהם יהיה זהה, ולאחר מכן נחבר את המונים. כדי להרחיב את השברים נעזר בפעולת מציאת מכנה משותף. לשם כך נעזר בפירוקים השונים כדי להביא את הביטויים שבכל מכנה לצורתם המופשטת. דוגמא לחיבור שברים בעלי אותו מכנה:

$$\frac{1}{x} + \frac{x+1}{x} = \frac{1+(x+1)}{x} = \frac{x+2}{x}$$

דוגמא לחיבור מספר לשבר אלגברי:

$$2 + \frac{3}{x+2} = \frac{2(x+2)}{x+2} + \frac{3}{x+2} = \frac{2(x+2)+3}{x+2} = \frac{2x+7}{x+2}$$

דוגמא לחיבור שברים עם מכנים שונים (ע"י פעולת מכנה משותף):

$$\frac{1}{x+1} + \frac{1}{x} = \frac{x}{x(x+1)} + \frac{x+1}{x(x+1)} = \frac{x+x+1}{x(x+1)} = \frac{2x+1}{x(x+1)}$$

דוגמא לחיבור שברים ע"י שימוש בפירוק לגורמים (כדי למצוא מכנה משותף מינימלי):

$$\frac{1}{x^2-3x} + \frac{3}{x-3} = \frac{1}{x^2-3x} + \frac{3x}{x^2-3x} = \frac{1+3x}{x^2-3x}$$

דוגמא לחיבור שברים ע"י נוסחאות הכפל המקוצר (כדי למצוא מכנה משותף מינימלי):

$$\frac{3}{x^2-6x+9} - \frac{2}{x^2-9} = \frac{3}{(x-3)^2} - \frac{2}{(x-3)(x+3)} = \frac{3(x+3)-2(x-3)}{(x-3)^2(x+3)} = \frac{x+15}{(x-3)^2(x+3)}$$

שאלות:

(1) פשט את הביטויים הבאים:

א. $\frac{a}{6} + \frac{a-5}{6}$

ג. $\frac{x-2}{x+1} + \frac{3+4x}{x+1}$

ב. $\frac{5}{x} + \frac{4x+3}{x}$

ד. $\frac{7z}{2z-3} - \frac{4z}{2z-3} - \frac{z+3}{2z-3}$

(2) פשט את הביטויים הבאים:

א. $\frac{1}{ab} - \frac{5}{bc}$

ג. $\frac{c}{ab} - \frac{ad}{bc} + \frac{2b}{cd}$

ב. $\frac{1}{xy} + \frac{5}{yz} + \frac{4}{xz}$

ד. $-\frac{5}{x} + \frac{x+1}{xy^2}$

ה. $\frac{1}{(y+1)^2} + \frac{3}{y+1}$

ו. $\frac{3}{z(z-3)} - \frac{2}{z(z-2)}$

(3) פשט את הביטויים הבאים:

א. $1 - \frac{2}{x}$

ג. $2 + \frac{2}{x+1}$

ב. $1 + \frac{3}{y^2}$

ד. $3 - \frac{1}{x} + \frac{1}{3x}$

ה. $\frac{a+1}{a^2} - \frac{3-a}{4a} - 3$

ו. $\frac{x}{9yz} + \frac{z}{3y^2x} + \frac{3-y}{12xz} - 3\frac{1}{2}$

(4) פשט את הביטויים הבאים:

א. $\frac{3}{x+1} + \frac{1}{x}$

ג. $\frac{a+1}{a+2} + \frac{3}{a}$

ב. $\frac{4}{y+2} - \frac{3}{y}$

ד. $\frac{1}{z+3} + \frac{2}{3z} - \frac{3}{z}$

5 פשט את הביטויים הבאים:

$$\frac{3}{x^2-16} + \frac{2}{(x+4)^2} \quad \text{ב.}$$

$$\frac{24}{a^2-9} + \frac{4}{a+3} \quad \text{א.}$$

$$\frac{3z}{z^2+4z+3} - \frac{z+0.5}{z^2+2z+1} \quad \text{ד.}$$

$$\frac{y}{(y-2)^2} + \frac{3y}{4-y^2} \quad \text{ג.}$$

$$\frac{2a+3}{2a^2+15a+7} + \frac{a+3}{a^2+14a+49} \quad \text{ו.}$$

$$\frac{x-1}{x^2+3x-40} + \frac{2}{-x^2+8x-15} \quad \text{ה.}$$

$$\frac{1}{a-b} + \frac{2}{a+2b} - \frac{3b}{a^2+ab-2b^2} \quad \text{ח.}$$

$$\frac{x}{x-3} + \frac{9-x}{x^2-8x+15} \quad \text{ז.}$$

6 פשט את הביטויים הבאים:

$$\left(\frac{2}{x}+1\right) \cdot \frac{x^2}{7x+14} \quad \text{ב.}$$

$$\frac{4}{x} \cdot \frac{x^2}{8} + \frac{9}{x+1} \cdot \frac{x+1}{18} \quad \text{א.}$$

$$\left(3x - \frac{2}{x^2} + \frac{1}{x}\right) : \frac{6x^3+2x-4}{x^2} \quad \text{ד.}$$

$$\frac{7}{y^2} : \frac{6}{y^3} - \frac{y-4}{63} \cdot \frac{3y-4}{y^2-8y+16} \quad \text{ג.}$$

$$\left(\frac{2x+1}{20x^2-28x-3} - \frac{3x+1}{30x^2-17x-2}\right) : \frac{18x+3}{6x^2-13x+6} \quad \text{ה.}$$

תשובות סופיות:

$$(1) \quad \begin{array}{lll} \text{א.} & \frac{2a-5}{6} & \text{ב.} & \frac{4x+8}{x} & \text{ג.} & \frac{5x+1}{x+1} & \text{ד.} & 1 \end{array}$$

$$(2) \quad \begin{array}{lll} \text{א.} & \frac{c-5a}{abc} & \text{ב.} & \frac{z+5x+4y}{xyz} & \text{ג.} & \frac{c^2d - a^2d^2 + 2ab^2}{abcd} \end{array}$$

$$\begin{array}{lll} \text{ד.} & \frac{-5y^2 + x + 1}{xy^2} & \text{ה.} & \frac{3y+4}{(y+1)^2} & \text{ו.} & \frac{1}{(z-2)(z-3)} \end{array}$$

$$(3) \quad \begin{array}{lll} \text{א.} & \frac{x-2}{x} & \text{ב.} & \frac{y^2+3}{y^2} & \text{ג.} & \frac{2x+4}{x+1} \end{array}$$

$$\begin{array}{lll} \text{ד.} & \frac{9x-2}{3x} & \text{ה.} & \frac{-11a^2 + a + 4}{4a^2} & \text{ו.} & \frac{4x^2y + 12z^2 + 9y^2 - 3y^3 - 126xy^2z}{36xy^2z} \end{array}$$

$$(4) \quad \begin{array}{lll} \text{א.} & \frac{4x+1}{x(x+1)} & \text{ב.} & \frac{y-6}{y(y+2)} & \text{ג.} & \frac{a^2 + 4a + 6}{a(a+2)} \end{array}$$

$$\text{ד.} \quad \frac{-4z+21}{3z(z+3)}$$

$$(5) \quad \begin{array}{lll} \text{א.} & \frac{4}{a-3} & \text{ב.} & \frac{5x+4}{(x-4)(x+4)^2} & \text{ג.} & \frac{2y(4-y)}{(y-2)^2(y+2)} \end{array}$$

$$\begin{array}{lll} \text{ד.} & \frac{(4z+3)(z-1)}{2(z+1)^2(z+3)} & \text{ה.} & \frac{x^2 - 6x - 13}{(x+8)(x-5)(x-3)} & \text{ו.} & \frac{4(a^2 + 6a + 6)}{(a+7)^2(2a+1)} \end{array}$$

$$\begin{array}{ll} \text{ז.} & \frac{x-3}{x-5} \\ \text{ח.} & \frac{3}{a+2b} \end{array}$$

$$(6) \quad \begin{array}{lll} \text{א.} & \frac{x+1}{2} & \text{ב.} & \frac{x}{7} & \text{ג.} & \frac{147y^2 - 594y + 8}{126(y-4)} & \text{ד.} & \frac{1}{2} & \text{ה.} & \frac{1}{3(10x+1)} \end{array}$$

שברים כפולים:

סיכום כללי:

שבר כפול מורכב באופן הבא: $\frac{\frac{a}{b}}{\frac{c}{d}}$ כאשר מתקיים: $\frac{\frac{a}{b}}{\frac{c}{d}} = \frac{a}{b} \cdot \frac{d}{c} = \frac{ad}{bc}$

נובע מכאן כי ניתן לצמצם ביטויים בין שני המכנים או שני המונים בלבד.

שאלות:

פשט את הביטויים הבאים:

$\frac{y+1}{2y+2} \quad (2)$	$\frac{4x}{12} \quad (1)$
$\frac{5}{t^2-81}$	$\frac{x}{5}$
$\frac{9t^2}{6t+54} \quad (4)$	$\frac{t}{30t^2} \quad (3)$
$\frac{4x}{x+1} \quad (6)$	$\frac{3y^3-y^2}{25} \quad (5)$
$\frac{x^2+2x+1}{t^2-t-20}$	$\frac{y^2}{3-y}$
$\frac{16t+8}{25-t^2} \quad (8)$	$\frac{8c^2}{3c^3-9c^2-12c} \quad (7)$
$\frac{2t+1}{x^2+2x+1}$	$\frac{15c+15}{1-4+\frac{x}{x+1}} \quad (9)$
	$\frac{1-3x(x+1)}{5x+5}$

תשובות סופיות:

$$\frac{x^2}{3} \quad (1)$$

$$2.5 \quad (2)$$

$$\frac{1}{6t^3} \quad (3)$$

$$\frac{t-9}{54t^2} \quad (4)$$

$$\frac{(3y-1)(3-y)}{25} \quad (5)$$

$$\frac{x(x+1)}{2} \quad (6)$$

$$\frac{c}{c-4} \quad (7)$$

$$\frac{t+4}{-8(t+5)} \quad (8)$$

$$\frac{5}{x} \quad (9)$$

מכינה למתמטיקה 3 יחידות לימוד

פרק 2 - משוואות ממעלה ראשונה

תוכן העניינים

1. מבוא למשוואות (ללא ספר)
2. משוואות שקולות (ללא ספר)
3. פתרון של משוואה (ללא ספר)
4. משוואות מסוגים נוספים (ללא ספר)
5. משוואות מיוחדות (ללא ספר)
6. משוואות עם מכנה מספרי (ללא ספר)
7. משוואות עם משתנה במכנה (ללא ספר)
8. משוואות שונות (ללא ספר)
9. מבוא למשוואות ליניאריות בשני נעלמים (ללא ספר)
10. פתרון מערכת משוואות ליניאריות בדרך גרפית (ללא ספר)
11. פתרון אלגברי של מערכת שתי משוואות ליניאריות (ללא ספר)
12. פתרון שאלות מילוליות בעזרת מערכת משוואות ליניאריות (ללא ספר)

מכינה למתמטיקה 3 יחידות לימוד

פרק 3 - משוואות ממעלה שנייה

תוכן העניינים

1. משוואות ריבועיות יסודיות (ללא ספר)
2. משוואות ריבועיות חסרות (ללא ספר)
3. משוואות ריבועיות לא מסודרות (ללא ספר)
4. משוואות ריבועיות עם שברים (ללא ספר)
5. מערכת משוואות ריבועיות (ללא ספר)

מכינה למתמטיקה 3 יחידות לימוד

פרק 4 - משוואות ממעלה שלישית ומעלה

תוכן העניינים

1. משוואות הנפתרות עם הוצאת שורש מסדר גבוה (ללא ספר)

2. משוואות מהצורה $AB=0$ (ללא ספר)

מכינה למתמטיקה 3 יחידות לימוד

פרק 5 - משוואות אלגבריות (רמת 4 יחידות)

תוכן העניינים

1. משוואה ממעלה ראשונה 47
2. מערכת שתי משוואות בשני נעלמים ממעלה ראשונה 49
3. משוואות עם אינסוף פתרונות וללא פתרון 52
4. משוואה ממעלה שנייה 53
5. משוואות דו-ריבועיות 55
6. משוואות עם פרמטרים 57
7. משוואות עם שורשים 59
8. משוואות עם ערך מוחלט 61
9. מערכת משוואות ממעלה שנייה 62

משוואה ממעלה ראשונה:

סיכום כללי:

משוואה ממעלה ראשונה היא מהצורה: $ax = b$ (כלומר, החזקה של הנעלם היא 1).

פתרון של משוואה ממעלה ראשונה הוא: $x = \frac{b}{a}$ כאשר $a \neq 0$.

שלבי הפתרון הם:

1. ביצוע מכנה משותף (במידה וצריך).
2. פתיחת סוגריים אם ישנם.
3. העברת אגפים וכינוס אברים דומים (בידוד הנעלם באגף אחד והמספרים באגף שני).
4. בידוד הנעלם ומציאתו ע"י חילוק במקדם שלו.

שאלות:

1) פתור את המשוואות הבאות (משוואות יסודיות ממעלה ראשונה):

- | | |
|-----------------------------|---------------------------------------|
| א. $6x + 2 = 8$ | ב. $7 - 2x = 7$ |
| ג. $2x + x = 24$ | ד. $2x + 6 = 8 + x$ |
| ה. $-7x + 5 + 2x = 4x - 13$ | ו. $6x - 3 + 5 - 7x = x - 5x - 7$ |
| ז. $2 - 5x + 7 = -3x + 8$ | ח. $x - 2 + 5x = 4 - 3x - 5 + 7x + 7$ |

2) פתור את המשוואות הבאות (משוואות עם פתיחת סוגריים):

- | | |
|------------------------------|-------------------------------------|
| א. $3(x - 1) - 4 = 2$ | ב. $7x - 4(3 - 4x) = -x$ |
| ג. $6(4 - x) - (6 - x) = 3x$ | ד. $5x - (3x - 7)4 = 21$ |
| ה. $x(x - 5) = x^2 - 7x + 8$ | ו. $(7 - x)(1 - x) - (x - 3)^2 = 0$ |

3 פתור את המשוואות הבאות (משוואות עם מכנה מספרי):

$$\begin{array}{ll}
 \text{א. } \frac{x}{3} - \frac{x}{9} = -4 & \text{ב. } \frac{4x}{15} - \frac{3x}{10} = 1 \\
 \text{ג. } \frac{2}{3}x + \frac{4}{5}x = x - \frac{7}{15} & \text{ד. } \frac{5x+1}{6} - \frac{6x-1}{5} = \frac{3x+1}{4} - 1 \\
 \text{ה. } \frac{2}{5}(x-3) - \frac{3}{15}(4-x) = x+2 & \text{ו. } 5\left(\frac{x}{3} - \frac{x}{7}\right) - x = 1
 \end{array}$$

4 פתור את המשוואות הבאות (משוואות עם נעלם במכנה):

$$\begin{array}{ll}
 \text{א. } \frac{1}{4} - \frac{2}{x} = 0 & \text{ב. } \frac{1}{2} - \frac{x}{x-1} = 0 \\
 \text{ג. } \frac{3}{x} = \frac{1}{x+2} & \text{ד. } \frac{5}{2x-1} = \frac{4}{3x+2} \\
 \text{ה. } \frac{x+5}{3x^2} - \frac{1}{6x} = \frac{1}{x} & \text{ו. } \frac{1}{4x} + \frac{3}{x} = \frac{13}{2}
 \end{array}$$

5 פתור את המשוואות הבאות (משוואות עם מכנה משותף ע"י פירוק לגורמים):

$$\begin{array}{ll}
 \text{א. } \frac{x^2+2}{3x^2+5x} = \frac{3x-1}{9x+15} & \text{ב. } \frac{7}{x^2-1} + \frac{2}{x+1} + \frac{3}{2-2x} = 0 \\
 \text{ג. } \frac{3}{(2-x)^2} + \frac{5}{12-3x^2} = 0 & \text{ד. } \frac{4x^2-24x+36}{x-3} = 12
 \end{array}$$

תשובות סופיות:

- (1) א. $x=1$ ב. $x=0$ ג. $x=8$ ד. $x=2$ ה. $x=2$ ו. $x=-3$
- ז. $x=\frac{1}{2}$ ח. $x=4$
- (2) א. $x=3$ ב. $x=\frac{1}{2}$ ג. $x=2\frac{1}{4}$ ד. $x=1$ ה. $x=4$ ו. $x=-1$
- (3) א. $x=-18$ ב. $x=-30$ ג. $x=-1$ ד. $x=1$ ה. $x=-10$ ו. $x=-21$
- (4) א. $x=8$ ב. $x=-1$ ג. $x=-3$ ד. $x=-2$ ה. $x=2$ ו. $x=\frac{1}{2}$
- (5) א. $x=-6$ ב. $x=-7$ ג. $x=-7$ ד. $x=6, x \neq 3$

מערכת שתי משוואות בשני נעלמים ממעלה ראשונה:

סיכום כללי:

הגדרה:

מערכת שתי משוואות בשני נעלמים ממעלה ראשונה (ליניאריות) היא מהצורה הבאה:

$$\begin{cases} a_1x + b_1y = c_1 \\ a_2x + b_2y = c_2 \end{cases}$$

כאשר a_1, b_1, c_1 ו- a_2, b_2, c_2 הם מקדמים מספריים.

$$\cdot \begin{cases} y = 3x - 1 \\ \frac{x+3}{2} = y + 6 \end{cases}, \begin{cases} x + y = 3 \\ 2x - y = 1 \end{cases} : \text{דוגמאות למערכות של משוואות}$$

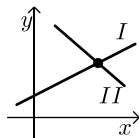
פתרון של מערכת משוואות:

פתרון של מערכת המשוואות הוא זוג סדור המקיים את כל המשוואות שבמערכת.

הצגה גרפית של מערכת משוואות:

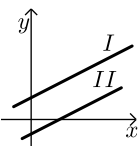
פתרון גרפי של מערכת משוואות הוא נקודת החיתוך של הישרים המייצגים כל משוואה.

יתכנו שלושה מצבים הדדיים בין שני ישרים:



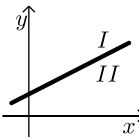
- הישרים נחתכים:

במקרה זה נקודת החיתוך תהיה פתרון המערכת.



- הישרים מקבילים:

במקרה זה לא יהיה פתרון למערכת.



- הישרים מתלכדים:

במקרה זה יהיו אינסוף פתרונות למערכת המשוואות.

פתרון אלגברי של מערכת משוואות:

- פתרון ע"י שיטת ההצבה :
נבודד את אחד הנעלמים ממשוואה אחת ונציב אותו במשוואה השנייה.
נבחר בשיטה זו במקרים בהם קל לבודד נעלם באחת המשוואות.
 - פתרון ע"י השוואת מקדמים :
1. כופלים (או מחלקים) משוואה אחת (או שתיהן) במספר השונה מאפס כך שתתקבלנה משוואות שקולות בעלות מקדמים נגדיים או זהים עבור אחד המשתנים.
 2. מחברים (או מחסרים) את המשוואות ומקבלים משוואה חדשה עם נעלם אחד.
 3. מוצאים את ערך הנעלם מהמשוואה החדשה ומציבים אותו באחת המשוואות המקוריות למציאת ערך הנעלם השני.

הערה:

נוח להשתמש בשיטת השוואת המקדמים ע"י כך שמעבירים את המערכת הנתונה למערכת שקולה שבה המשתנים באגף אחד והמספר החופשי באגף השני.

שאלות:

1) פתור את המשוואות הבאות :

$\begin{cases} -3x + 2y = -16 \\ x = 5y + 14 \end{cases} \quad \text{ג.}$	$\begin{cases} y = x - 3 \\ y = 2x + 4 \end{cases} \quad \text{ב.}$	$\begin{cases} 3x + y = 11 \\ y = 5 \end{cases} \quad \text{א.}$
$\begin{cases} 2x + 3y = 5 \\ 5x + 7y = 11 \end{cases} \quad \text{ו.}$	$\begin{cases} -5x + 7y = -26 \\ x + 3y = -8 \end{cases} \quad \text{ה.}$	$\begin{cases} 5x - 2y = -2 \\ x + 4y = 4 \end{cases} \quad \text{ד.}$

2) פתור את המשוואות הבאות :

$\begin{cases} 5x + 2y = 14 \\ 5x + 3y = 23 \end{cases} \quad \text{ב.}$	$\begin{cases} x + 3y = 5 \\ x - 3y = 3 \end{cases} \quad \text{א.}$
$\begin{cases} 4x = 3y - 29 \\ 5y = 9 - 13x \end{cases} \quad \text{ד.}$	$\begin{cases} 5y = 2x \\ 4x = 5y + 8 \end{cases} \quad \text{ג.}$

3 פתור את המשוואות הבאות :

$$\begin{cases} x+2y=1 \\ 4x+8y=5 \end{cases} \text{ א.} \quad \begin{cases} 2(x-y)+4y=1+x \\ 2-7y+x=3(x-y) \end{cases} \text{ ב.}$$

4 פתור את המשוואות הבאות :

$$\begin{cases} 3y-x+2=4x+2-3y \\ 2x-3-y=5y-4x+3 \end{cases} \text{ א.} \quad \begin{cases} \frac{x-3}{8} - \frac{x+y}{16} = \frac{y-1}{4} \\ 3(2x-y)-4x-11=0 \end{cases} \text{ ב.}$$

$$\begin{cases} \frac{3x-1}{4} - \frac{2}{5}(x-y) = \frac{3}{10}(x+3) \\ \frac{x+1}{4} - \frac{y}{2} = 1 \end{cases} \text{ ג.}$$

5 פתור את המשוואות הבאות :

$$\begin{cases} \frac{3}{x} + \frac{1}{y} = 4 \\ \frac{5}{x} - \frac{1}{y} = 4 \end{cases} \text{ א.} \quad \begin{cases} \frac{3}{x} + \frac{3}{y} = 2 \\ \frac{9}{x} - \frac{4}{y} = -7 \end{cases} \text{ ב.} \quad \begin{cases} 4x - \frac{7}{y} = -3 \\ 5x + \frac{2}{y} = 7 \end{cases} \text{ ג.}$$

6 פתור את המשוואות הבאות :

$$\begin{cases} x(y+2)+y=xy-5 \\ x-y=2 \end{cases} \text{ א.} \quad \begin{cases} xy=20 \\ y(3x-4)=20 \end{cases} \text{ ב.} \quad \begin{cases} 5x-4xy=22 \\ 6x+xy=-20 \end{cases} \text{ ג.}$$

תשובות סופיות:

- 1 א. (2,5) ב. (-7,-10) ג. (4,-2) ד. (0,1) ה. (1,-3) ו. (-2,3)
- 2 א. $(4, \frac{1}{3})$ ב. $(-\frac{4}{5}, 9)$ ג. (4,1.6) ד. (-2,7)
- 3 א. אין פתרון. ב. אינסוף פתרונות.
- 4 א. (6,5) ב. (7,1) ג. (7,2)
- 5 א. (1,1) ב. (-3,1) ג. (1,1)
- 6 א. (-1,-3) ב. (2,10) ג. (-2,4)

משוואות עם אינסוף פתרונות וללא פתרון:

סיכום כללי:

משוואה ממעלה ראשונה:

למשוואה ממעלה ראשונה מהצורה: $ax = b$ יתכן פתרון יחיד אם ורק אם $a \neq 0$

מכיוון שניתן לחלק ולכתוב: $x = \frac{b}{a}$.

כאשר $a = 0$ מתקבלת המשוואה $0x = b$ ויתכנו שני מצבים:

1. אם $b = 0$ את המשוואה היא $0x = 0$ ויש אינסוף פתרונות המקיימים אותה.

2. אם $b \neq 0$ את המשוואה היא $0x = b \neq 0$ ואין אף ערך של x המקיים אותה.

שאלות:

פתור את המשוואות הבאות:

$$(1) \quad x + 4 = 6 + x \quad (2) \quad 3x + 6 - x = 4 + 2x + 2$$

$$(3) \quad 6(x - 2) = 2x + 5 + 4x \quad (4) \quad 5x - 3 + x = 4x + 2x - 3$$

$$(5) \quad \text{נתונה המשוואה: } 3 - 2(x + 2) = 5x + \square$$

א. איזה מספר יש להציב ב- \square על מנת שפתרון המשוואה יהיה 1?

ב. איזה מספר יש להציב ב- \square על מנת שפתרון המשוואה יהיה 0?

ג. מצא ביטוי אלגברי שיש להציב ב- \square על מנת שלמשוואה יהיו אינסוף פתרונות.

ד. מצא ביטוי אלגברי שיש להציב ב- \square על מנת שלמשוואה לא יהיה פתרון.

תשובות סופיות:

(1) אף פתרון.

(2) אינסוף פתרונות.

(3) אין פתרון.

(4) אינסוף פתרונות.

(5) א. -8 ב. -1 ג. $-7x - 1$

ד. $-7x + k$ (כאשר k הוא מספר כלשהו חוץ מ-1).

משוואה ממעלה שנייה:

סיכום כללי:

משוואה מהצורה: $ax^2 + bx + c = 0$ ($a \neq 0$), נקראת משוואה ריבועית. פתרונות המשוואה יסומנו ב- x_1 ו- x_2 ויחושבו לפי נוסחת השורשים:

$$x_{1,2} = \frac{-b \pm \sqrt{b^2 - 4ac}}{2a}$$

למשוואה ריבועית יתכנו שלושה סוגים של פתרונות:

- משוואה עם שני פתרונות ממשיים שונים.**
 אם מתקבל מספר חיובי בתוך השורש שבנוסחת השורשים אזי למשוואה יהיו שני פתרונות ממשיים שונים.
 דוגמא: $x^2 + 5x - 4 = 0$.
- משוואה עם פתרון ממשי אחד בלבד.**
 אם מתקבל אפס בתוך השורש שבנוסחת השורשים אזי למשוואה יהיה פתרון ממשי אחד בלבד.
 דוגמא: $x^2 + 4x + 4 = 0$.
- משוואה ללא פתרונות ממשיים כלל.**
 אם מתקבל מספר שלילי בתוך השורש שבנוסחת השורשים אזי למשוואה לא יהיו פתרונות ממשיים כלל.
 דוגמא: $x^2 + x + 4 = 0$.

שאלות:

(1) פתור את המשוואות הבאות:

ב. $-x^2 + 10x - 16 = 0$

א. $x^2 + 3x - 10 = 0$

ד. $2x^2 - 6x + 5 = 0$

ג. $25x^2 - 20x + 4 = 0$

(2) פתור את המשוואות הבאות:

ב. $-x(x-5) = (1-3x)(1-x) + 4$

א. $4x^2 - 5x + 7 = 4 - x^2 + 13$

ד. $(2x-1)^2 + x(2x+3) = (x-1)(x-7)$

ג. $2(x-5)^2 - (2x-3)^2 = 10x + 21$

(3) פתור את המשוואות הבאות (משוואה חסרת b):

$$\begin{array}{ll} \text{א. } x^2 - 36 = 0 & \text{ב. } 32x^2 - 18 = 0 \\ \text{ג. } 4x - x(x+2) = 3(x-1) - x - 6 & \text{ד. } (2x-1)^2 + (2x+1)^2 = 10 \end{array}$$

(4) פתור את המשוואות הבאות (משוואה חסרת c):

$$\begin{array}{ll} \text{א. } -7x^2 - 14x = 0 & \text{ב. } 5x^2 - x = 0 \\ \text{ג. } 6x(x-2) - 1 = 4x - 3(x+1) + 2 & \text{ד. } (5x-2)^2 = (x-2)(x+3) + 10 \end{array}$$

(5) פתור את המשוואות הבאות:

$$\begin{array}{ll} \text{א. } \frac{4x+1}{3} - \frac{x+2}{2} = \frac{2}{x} & \text{ב. } \frac{x^2-9}{x+3} + x = x^2 - 18 \\ \text{ג. } \frac{3}{2x+2} - \frac{2x-5}{2(x-1)^2} - \frac{4}{1-x^2} = 0 & \text{ד. } \frac{x}{2x^2-72} + \frac{2}{x^2+12x+36} = \frac{8x-15}{24-4x} + 2 \end{array}$$

תשובות סופיות:

$$(1) \text{ א. } x_1 = 2, x_2 = -5 \quad \text{ב. } x_1 = 2, x_2 = 8 \quad \text{ג. } x = \frac{2}{5} \quad \text{ד. אין פתרון.}$$

$$(2) \text{ א. } x_1 = 2, x_2 = -1 \quad \text{ב. } x_1 = 1, x_2 = 1\frac{1}{4} \quad \text{ג. } x_1 = 1, x_2 = -10 \\ \text{ד. } x_1 = 0.6, x_2 = -2$$

$$(3) \text{ א. } x = \pm 6 \quad \text{ב. } x = \pm \frac{3}{4} \quad \text{ג. } x = \pm 3 \quad \text{ד. } x = \pm 1$$

$$(4) \text{ א. } x_1 = 0, x_2 = -2 \quad \text{ב. } x_1 = 0, x_2 = \frac{1}{5} \quad \text{ג. } x_1 = 0, x_2 = 2\frac{1}{6} \\ \text{ד. } x_1 = 0, x_2 = \frac{7}{8}$$

$$(5) \text{ א. } x_1 = 2, x_2 = -1.2 \quad \text{ב. } x = 5, x \neq -3 \quad \text{ג. } x_1 = 0, x_2 = -5 \\ \text{ד. } x_1 = -7.6, x_2 = -4\frac{2}{7}$$

משוואות דו-ריבועיות:

סיכום כללי:

משוואה דו-ריבועית היא משוואה מהצורה: $ax^4 + bx^2 + c = 0$ כאשר הנעלם הוא x .
פתרון המשוואה יבוצע ע"י מעבר לפרמטר: $x^2 = t \rightarrow at^2 + bt + c = 0$ ומציאתו.
לאחר מכן יש להחזיר את ההצבה ולמצוא את ערכי x .

ניתן להביא משוואות לצורה זו ולהגדיר ביטוי המופיע בחזקות 2 ו-4 כגון:
 $t = x^2 - 1$: באמצעות פרמטר: $(x^2 - 1)^2 + 3(x^2 - 1) - 2 = 0$
ובכך לפתור משוואה: $t^2 + 3t - 2 = 0$ ולהחזיר את ההצבה עבור מציאת x .
דרך הפתרון תקפה לכל משוואה בה הנעלם מופיע בחזקות כפולות כגון 3 ו-6, או 4 ו-8.

שאלות:

פתור את המשוואות הבאות:

- | | |
|--|---|
| $x^4 - 3x^2 + 2 = 0$ (2) | $5x^4 + 3x^2 - 8 = 0$ (1) |
| $x^2(x^2 + 1) = 10(3x^2 - 10)$ (4) | $13x^2(3x^2 - 1) - 2 = 3(x^2 - 1)(x^2 + 1)$ (3) |
| $x^3 + 4 = \frac{32}{x^3}$ (6) | $x^6 + x^3 = 56$ (5) |
| $x^8 - 4x^4 - 50 = 31x^4 - 84$ (8) | $x - 9\sqrt{x} + 14 = 0$ (7) |
| $(2x^2 - x)^2 - 4(2x^2 - x) + 3 = 0$ (10) | $125x^6 - 1 = 124(x^6 + x^3 + 1)$ (9) |
| $\frac{21}{x^2 - 4x + 10} = 6 + x^2 - 4x$ (12) | $(x^2 + 2x)^2 + 7x^2 + 14x = -6$ (11) |
| $\frac{x^2 + 2x + 2}{x^2 + 2x + 3} = \frac{7}{6} - \frac{x^2 + 2x + 1}{x^2 + 2x + 2}$ (14) | $\frac{12}{x^2 + 2x - 8} = 1 + \frac{7.5}{x^2 + 2x - 3}$ (13) |
| $\frac{x^2 - 1}{4x^2 - 28} + 2 = \frac{9}{x^4 - 8x^2 + 7} + \frac{x^2}{2x^2 - 2}$ (16) | $\frac{3}{3x^2 - 15} + \frac{1}{x^2 + 5} = \frac{10}{x^4 - 25}$ (15) |
| $\frac{3x^4}{(x+2)^2} + \frac{3x^2}{x+2} = 6$ (18) | $\left(2x + \frac{3}{x}\right)^2 + 35 = 12\left(2x + \frac{3}{x}\right)$ (17) |
| $(x^2 - 5x + 6)(x^2 - 5x - 8) = -24$ (20) | $(2x - x^2 + 3)(2x - x^2 - 2) = 0$ (19) |

תשובות סופיות:

$$x = \pm 1 \quad (1)$$

$$x = \pm 1, \pm \sqrt{2} \quad (2)$$

$$x = \pm \frac{1}{2}, \pm \frac{1}{3} \quad (3)$$

$$x = \pm 2, \pm 5 \quad (4)$$

$$x_1 = \sqrt[3]{7}, x_2 = -2 \quad (5)$$

$$x = -2, \sqrt[3]{4} \quad (6)$$

$$x = 49 \quad (7)$$

$$x_{1,2} = \pm \sqrt[4]{34}, x_{3,4} = \pm 1 \quad (8)$$

$$x = 5, -1 \quad (9)$$

$$x_1 = 1.5, x_2 = -1, x_3 = 1, x_4 = -\frac{1}{2} \quad (10)$$

$$x = -1 \quad (11)$$

$$x_{1,2} = 1, 3 \quad (12)$$

$$x_1 = 0, x_2 = -2, x_3 = 3.06, x_4 = -5.06 \quad (13)$$

$$x_1 = 0, x_2 = -2 \quad (14)$$

(15) אין פתרונות.

$$x = \pm \sqrt{\frac{3}{7}} \quad (16)$$

$$x = \frac{1}{2}, 1, \frac{3}{2}, 3 \quad (17)$$

$$x = -1, 2 \quad (18)$$

$$x = 3, -1 \quad (19)$$

$$x = \pm 1, 4, 6 \quad (20)$$

משוואות עם פרמטרים:

סיכום כללי:

משוואה עם פרמטר הינה משוואה שמכילה שני סוגים של גדלים – משתנים ופרמטרים. את המשתנים מקובל לסמן באותיות x , y , z ואת הפרמטרים מסמנים בשאר האותיות. פתרון המשוואה יתקבל ע"י בידוד המשתנה כך שיבוטא באמצעות הפרמטרים שבמשוואה.

למשל פתרון המשוואה: $mx = 4$ (כאשר x הוא הנעלם ו- m הוא פרמטר) הוא: $x = \frac{4}{m}$

אשר מבוטא באמצעות הפרמטר m .

בכתיבת פתרון של משוואה עם פרמטרים יש לציין את תחום ההגדרה של הפרמטר עבורו הפתרון הוא בעל משמעות.

בדוגמא הנ"ל תחום ההגדרה הוא: $m \neq 0$.

שאלות:

(1) פתור את המשוואות הבאות:

$$\text{א. } 3x - b = (b+1)x - 6 \quad \text{ב. } \frac{1}{3}(a-3x) = \frac{1}{a}(ax-3)$$

$$\text{ג. } (x-2a)(x-2b) = x^2 - 2(a^2 + b^2) \quad \text{ד. } \frac{m+1}{x-1} = \frac{m-1}{x+1}$$

$$\text{ה. } \frac{x}{a^2 - a} - \frac{1}{2a} = \frac{ax+x}{2a^3 - 4a^2 + 2a} - \frac{2}{a^3 - 2a^2 + a}$$

(2) פתור את מערכות המשוואות הבאות:

$$\text{א. } \begin{cases} x + my = 1 \\ x + y = m \end{cases} \quad \text{ב. } \begin{cases} ax + y = 2 \\ x + ay = 4 \end{cases}$$

$$\text{ג. } \begin{cases} \frac{x}{m} + y = m \\ x - m^2 y = 1 \end{cases} \quad \text{ד. } \begin{cases} (m-1)x - (2m+3)y = 5 \\ (m+2)x - (2m-1)y = 10m \end{cases}$$

$$\text{ה. } \begin{cases} (2a+b)x - (2a-b)y = 8ab \\ (2a-b)x + (2a+b)y = 8a^2 - 2b^2 \end{cases}$$

3) פתור את המשוואות הריבועיות הבאות:

$$\text{א. } x^2 - 2mx + m^2 - 1 = 0 \quad \text{ב. } x^2 - 2x + 4a = a^2 + 3$$

$$\text{ג. } x^2 + m(x+10) = 2m^2 - 5x \quad \text{ד. } \frac{1}{a-x} + \frac{1}{a} + \frac{1}{a+x} = 0$$

$$\text{ה. } (m^2 + 1)x^2 - m^2x - 1 = 0 \quad \text{ו. } \frac{a}{x} + \frac{1}{b} = \frac{x}{a} + b$$

$$\text{ז. } x + \frac{1}{x} = \frac{a-b}{a+b} + \frac{a+b}{a-b}$$

תשובות סופיות:

$$\text{(1) א. } x = \frac{b-6}{2-b}, b \neq 2 \quad \text{ב. } x = \frac{a^2+9}{6a}, a \neq 0 \quad \text{ג. } x = a+b \quad \text{ד. } x = -m \quad \text{ה. } x = a+1$$

$$\text{(2) א. } m \neq 1, (m+1, -1) \quad \text{ב. } a \neq \pm 1, \left(\frac{2a-4}{a^2-1}, \frac{4a-2}{a^2-1} \right)$$

$$\text{ג. } m \neq 0-1, \left(m^2 - m + 1, \frac{m-1}{m} \right) \quad \text{ד. } m \neq 1, -2, (2m+1, m-2)$$

$$\text{ה. } b \neq \pm 2a, (2a+b, 2a-b)$$

$$\text{(3) א. } x = m+1, m-1 \quad \text{ב. } x = a-1, 3-a \quad \text{ג. } x = m-5, -2m$$

$$\text{ד. } a \neq 0, x \neq \pm a, x = \pm a\sqrt{3} \quad \text{ה. } x = 1, -\frac{1}{m^2+1}$$

$$\text{ו. } a, b \neq 0, x = \frac{a}{b}, -ab \quad \text{ז. } a \neq \pm b, x = \frac{a+b}{a-b}, \frac{a-b}{a+b}$$

משוואות עם שורשים:

סיכום כללי:

פתרון משוואה מהצורה $\sqrt{x} = a$ יתקבל ע"י העלאה בריבוע של שני אגפי המשוואה באופן הבא: $x = a^2 \rightarrow (\sqrt{x})^2 = (a)^2$.

הערות:

- (1) יש לזכור בעת העלאה בריבוע של שני אגפי המשוואה יש לבדוק את כל הפתרונות המתקבלים ע"י הצבתם במשוואה המקורית.
- (2) למשוואה מהצורה $\sqrt{x} = a$ שבה $a < 0$ אין פתרון.
- (3) יש לסדר תחילה משוואות שבהן הביטוי עם שורש אינו מבודד.
- (4) במשוואות שבהן יותר מביטוי אחד עם שורש יש לבודד תחילה את אחד הביטויים, להעלות בריבוע ולאחר מכן לחזור על התהליך ולבצע העלאה בריבוע פעם נוספת.

שאלות:

פתור את המשוואות הבאות:

- | | |
|--|---|
| $\sqrt{x+2} = x$ (2) | $\sqrt{2x+5} = 7$ (1) |
| $\sqrt{2x+7} + 4 = x$ (4) | $\sqrt{3x+1} + x = 13$ (3) |
| $\sqrt{10x+6} + 9 = x$ (6) | $\sqrt{x-1} + 3 = x$ (5) |
| $\sqrt{24-x} + 3 = 2x$ (8) | $\sqrt{x+6} - 2 = 2x$ (7) |
| $2x = 16 - 3\sqrt{x-1}$ (10) | $\sqrt{x+16} + 4 = 2x$ (9) |
| $\sqrt{x^2 - 5x + 12} = 2\sqrt{6-x}$ (12) | $\sqrt{3x+5} = \sqrt{x+17}$ (11) |
| $\sqrt{2x-1} + 3 = \sqrt{7x+1}$ (14) | $\sqrt{x-1} \cdot \sqrt{2x-5} = \sqrt{11-x^2}$ (13) |
| $\sqrt{2x-3} + \sqrt{3-x} = 2$ (16) | $\sqrt{9x-8} - 3\sqrt{x+4} = -2$ (15) |
| $\sqrt{2x-2} + \sqrt{5x-4} = \sqrt{3x-2}$ (18) | $\sqrt{x+3} + \sqrt{x-2} = \sqrt{4x+1}$ (17) |
| | $3\sqrt{x-1} + \sqrt{2x-3} = 2\sqrt{x+2}$ (19) |

תשובות סופיות:

- | | |
|-------------------------|-------------|
| $x=2$ (2 | $x=22$ (1 |
| $x=9$ (4 | $x=8$ (3 |
| $x=25$ (6 | $x=5$ (5 |
| $x=3.75$ (8 | $x=0.25$ (7 |
| $x=5$ (10 | $x=4.25$ (9 |
| $x=4, -3$ (12 | $x=6$ (11 |
| $x=5$ (14 | $x=3$ (13 |
| $x=2, 2\frac{8}{9}$ (16 | $x=12$ (15 |
| $x=1$ (18 | $x=6$ (17 |
| | $x=2$ (19 |

משוואות עם ערך מוחלט:

סיכום כללי:

הגדרה:

ערך מוחלט הינו המרחק של מספר מ-0 ומוגדר באופן הבא: $|x| = \begin{cases} x & x \geq 0 \\ -x & x < 0 \end{cases}$.

משוואה עם ערך מוחלט:

משוואה עם ערך מוחלט היא מהצורה: $|x| = a$.

כדי לפתור משוואה עם ערכים מוחלטים יש למצוא את נקודות האפס של כל ערך מוחלט (קרי: הנקודות בהן הביטוי שבתוך הערך המוחלט מתאפס) ולפצל את המשוואה הנתונה לתחומים עבור כל תחום.

שאלות:

פתור את המשוואות הבאות:

- | | |
|-----------------------------|---------------------------|
| $ 3x-24 =x$ (2) | $ 3x+14 =7$ (1) |
| $2x- 8-x =10$ (4) | $ 12-x =3x$ (3) |
| $ 14-3x =2 x+5 $ (6) | $ 4x-5 = 2x+13 $ (5) |
| $ x+2 +6= 2x-4 $ (8) | $ x +7= 2x $ (7) |
| $ 10-3x - x+4 = 2x-6 $ (10) | $ x+2 + 2x-6 = 4x+8 $ (9) |

תשובות סופיות:

- | | | | |
|---------------------------|---------------|-------------------------|--------------------------|
| $x=6$ (4) | $x=3$ (3) | $x=6, 12$ (2) | $x=-\frac{7}{3}, -7$ (1) |
| $x=12, -1\frac{1}{3}$ (8) | $x=\pm 7$ (7) | $x=24, \frac{4}{5}$ (6) | $x=9, -1\frac{1}{3}$ (5) |
| | | $x=0$ (10) | $x=0, -12$ (9) |

מערכת משוואות ממעלה שנייה:

סיכום כללי:

מערכת משוואות ריבועיות מיוחסת למערכת של שתי משוואות (לפחות) שאחת מהן מכילה את אחד מהנעלמים בריבוע. למערכת משוואות ריבועיות יכולים להתקבל עד 4 פתרונות שונים. יש לפתור את המערכת לפי הטכניקות הרגילות של בידוד והצבה או השוואת מקדמים.

שאלות:

פתור את מערכות המשוואות הבאות:

$$\begin{cases} 2x^2 + y^2 = 36 \\ x^2 + 3y = 10 \end{cases} \quad (2)$$

$$\begin{cases} x^2 + y^2 = 20 \\ x + y = 6 \end{cases} \quad (1)$$

$$\begin{cases} x^2 - 2y^2 = 17 \\ xy = -10 \end{cases} \quad (4)$$

$$\begin{cases} 3x^2 + 4y^2 = 16 \\ 5x^2 - 3y^2 = 17 \end{cases} \quad (3)$$

$$\begin{cases} x^2 - 2xy + 8y^2 = 8 \\ 3xy - 2y^2 = 4 \end{cases} \quad (6)$$

$$\begin{cases} x^2 - xy - 20y^2 = 0 \\ x + 6y = 1 \end{cases} \quad (5)$$

$$\begin{cases} 16x^2 - y^2 = 391 \\ 4x - y = 23 \end{cases} \quad (8)$$

$$\begin{cases} x^2 - y^2 = 33 \\ x + y = 11 \end{cases} \quad (7)$$

$$\begin{cases} \frac{3}{x} + \frac{1}{y} = 5 \\ \frac{4}{y} - \frac{1}{x} = -19 \end{cases} \quad (10)$$

$$\begin{cases} 4xy + x = -15 \\ \frac{3}{y} - 2x = 16 \end{cases} \quad (9)$$

$$\begin{cases} xy = 24 \\ (y-x)^2 - 7(y-x) + 10 = 0 \end{cases} \quad (12)$$

$$\begin{cases} \frac{3}{x} + \frac{5}{y} = 21 \\ \frac{8}{x} - \frac{1}{y} = 13 \end{cases} \quad (11)$$

$$\begin{cases} \sqrt{\frac{x}{y}} + \sqrt{\frac{y}{x}} = \frac{10}{3} \\ x^2 + y^2 = 9xy + 25 \end{cases} \quad (14)$$

$$\begin{cases} x^2y - xy^2 = 84 \\ x^2 - 2xy + y^2 + 5x - 5y = 24 \end{cases} \quad (13)$$

תשובות סופיות:

- | | |
|---|--|
| $(\pm 4, -2)$ (2) | $(2, 4), (4, 2)$ (1) |
| $(5, -2), (-5, 2)$ (4) | $(\pm 2, \pm 1)$ (3) |
| $\left(3, \frac{1}{2}\right), \left(-3, -\frac{1}{2}\right), (2, 1), (-2, -1)$ (6) | $\left(-2, \frac{1}{2}\right), \left(\frac{5}{11}, \frac{1}{11}\right)$ (5) |
| $(5, -3)$ (8) | $(7, 4)$ (7) |
| $\left(\frac{1}{3}, -\frac{1}{4}\right)$ (10) | $\left(-5, \frac{1}{2}\right), \left(-24, -\frac{3}{32}\right)$ (9) |
| $(4, 6), (-6, -4), (3, 8), (-8, -3)$ (12) | $\left(\frac{1}{2}, \frac{1}{3}\right)$ (11) |
| $(-1.65, 6.35), (-6.35, 1.65), (7, 4), (-4, -7)$ (13) | |
| $(5, 45), (-5, -45), (45, 5), (-45, -5)$ (14) | |

מכינה למתמטיקה 3 יחידות לימוד

פרק 6 - הפונקציה הקווית

תוכן העניינים

1. ייצוג גרפי של פונקצית הקו הישר (ללא ספר)
2. שיפוע ישר (ללא ספר)
3. הקו הישר הכללי (ללא ספר)
4. שיפוע דרך שתי נקודות (ללא ספר)
5. משוואת ישר עם שיפוע ונקודה (ללא ספר)
6. משוואת ישר המקביל לישר נתון (ללא ספר)
7. משוואת ישר דרך שתי נקודות (ללא ספר)
8. ישרים המקבילים לצירים (ללא ספר)
9. חיתוך של ישר עם הצירים (ללא ספר)
10. חיוביות ושליליות של קו ישר (ללא ספר)
11. חישובי שטחים עם הפונקציה הקווית (ללא ספר)

מכינה למתמטיקה 3 יחידות לימוד

פרק 7 - הפונקציה הריבועית

תוכן העניינים

1. הפונקציה הריבועית היסודית $y=x^2$ (ללא ספר)
2. משפחת הפרבולות מהצורה $y=x^2+c$ (ללא ספר)
3. משפחת הפרבולות מהצורה $y=(x-p)^2$ (ללא ספר)
4. משפחת הפרבולות מהצורה $y=(x-p)^2+k$ (ללא ספר)
5. משפחת הפרבולות עם מקדם a כללי (ללא ספר)
6. משפחת הפרבולות מהצורה $y=a(x-p)^2+k$ (ללא ספר)
7. הצגה סטנדרטית של הפונקציה הריבועית (ללא ספר)
8. סרטוט של גרף הפונקציה הריבועית הכללית (ללא ספר)
9. מציאת נקודות האפס של פונקציה ריבועית עם a כללי (ללא ספר)
10. ייצוגים שונים של פונקציה ריבועית (ללא ספר)
11. חיתוך בין ישר ופרבולה (ללא ספר)
12. חיתוך בין שתי פרבולות (ללא ספר)
13. שאלות מסכמות (ללא ספר)

מכינה למתמטיקה 3 יחידות לימוד

פרק 8 - הנדסה אנליטית - הישר

תוכן העניינים

1. אמצע קטע (ללא ספר)
2. חזרה כללית (ללא ספר)
3. ישרים מקבילים ומאונכים (ללא ספר)
4. מרחק בין שתי נקודות (ללא ספר)
5. משוואת הישר (ללא ספר)
6. שאלות עם מרובעים (ללא ספר)
7. שאלות עם משולשים (ללא ספר)

מכינה למתמטיקה 3 יחידות לימוד

פרק 9 - קריאת גרפים

תוכן העניינים

1. כללי (ללא ספר)

מכינה למתמטיקה 3 יחידות לימוד

פרק 10 - בעיות גדילה ודעיכה

תוכן העניינים

1. בעיות גדילה ודעיכה עם יחסים ואחוזים (ללא ספר)
2. חישובים עם יחידות זמן שונות (ללא ספר)
3. מחצית מהכמות ההתחלתית וזמן מחצית החיים (ללא ספר)
4. מציאת הזמן (ללא ספר)
5. מציאת הכמות ההתחלתית (ללא ספר)
6. מציאת הכמות הסופית (ללא ספר)
7. מציאת קצב הגדילה והדעיכה (ללא ספר)
8. שאלות הכוללות קריאה מתוך גרפים (ללא ספר)
9. שאלות מסכמות כדוגמת המאגר (ללא ספר)
10. שאלות עם עיגול מספרים (ללא ספר)
11. שאלות עם ריביות (ללא ספר)

מכינה למתמטיקה 3 יחידות לימוד

פרק 11 - מבוא לסטטיסטיקה

תוכן העניינים

1. איסוף נתונים והצגת נתונים (ללא ספר)
2. טבלת שכיחויות ושכיחות יחסית (ללא ספר)

מכינה למתמטיקה 3 יחידות לימוד

פרק 12 - מדדים מרכזיים - השכיח

תוכן העניינים

1. השכיח (ללא ספר)

מכינה למתמטיקה 3 יחידות לימוד

פרק 13 - מדדים מרכזיים - הממוצע

תוכן העניינים

1. סיכום כללי (ללא ספר)
2. שאלות יסודיות (ללא ספר)
3. שאלות כלליות (ללא ספר)

מכינה למתמטיקה 3 יחידות לימוד

פרק 14 - מדדים מרכזיים - החציון

תוכן העניינים

1. החציון (ללא ספר)

מכינה למתמטיקה 3 יחידות לימוד

פרק 15 - שאלות מסכמות - מדדים מרכזיים

תוכן העניינים

1. כללי (ללא ספר)

מכינה למתמטיקה 3 יחידות לימוד

פרק 16 - סטטיסטיקה (פרק מתקדם)

תוכן העניינים

1. הממוצע - חזרה כללית (ללא ספר)
2. מציאת השכיחות בעזרת הממוצע (ללא ספר)
3. ממוצעים של קבוצות (ללא ספר)
4. הוספת נתונים וחישוב ממוצע חדש (ללא ספר)
5. ממוצע גדל, קטן או לא משתנה (ללא ספר)
6. שאלות עם שני נעלמים בממוצע (ללא ספר)
7. סטיית תקן (ללא ספר)
8. המשמעות של סטיית התקן (ללא ספר)
9. השכיח והחציון - חזרה כללית (ללא ספר)
10. שאלות שבהן סטיית התקן נתונה (ללא ספר)
11. שאלות כוללות עם סטיית תקן, ממוצע, שכיח וחציון (ללא ספר)

מכינה למתמטיקה 3 יחידות לימוד

פרק 17 - מבוא להסתברות

תוכן העניינים

1. הסתברות על ציר המספרים (ללא ספר)
2. ניסויים ותוצאות (ללא ספר)
3. שכיחות יחסית והסתברות (ללא ספר)
4. תכונות ההסתברות (ללא ספר)

מכינה למתמטיקה 3 יחידות לימוד

פרק 18 - הסתברות של מאורע בודד

תוכן העניינים

1. הקדמה כללית (ללא ספר)
2. שאלות עם בחירת כדור (ללא ספר)
3. שאלות עם הגרלות (ללא ספר)
4. שאלות עם הטלת קובייה (ללא ספר)
5. שאלות עם ילדים במשפחה (ללא ספר)
6. שאלות עם משחק דומינו (ללא ספר)
7. שאלות עם ציונים בכיתה (ללא ספר)
8. שאלות עם תריסריון (ללא ספר)
9. שאלות עם דיאגרמת עיגול (ללא ספר)
10. שאלות עם קריאת נתונים מטבלה (ללא ספר)
11. שאלות תכנון לפי הסתברות נתונה (ללא ספר)

מכינה למתמטיקה 3 יחידות לימוד

פרק 19 - הסתברות של שני מאורעות

תוכן העניינים

1. הסתברות של שני מאורעות (ללא ספר)

מכינה למתמטיקה 3 יחידות לימוד

פרק 20 - הסתברות קלאסית (רמת 4 יחידות)

תוכן העניינים

1. מבוא (ללא ספר)
2. שאלות העוסקות בחיתוך של 2 מאורעות (ללא ספר)
3. שאלות העוסקות בחיתוך של 3 מאורעות בלתי תלויים (ללא ספר)
4. שאלות העוסקות במאורעות דו שלביים תלויים (ללא ספר)
5. שאלות עם נעלמים (ללא ספר)
6. מאגר משרד החינוך (ללא ספר)

מכינה למתמטיקה 3 יחידות לימוד

פרק 21 - התפלגות נורמלית

תוכן העניינים

1. מבוא להתפלגות נורמלית (ללא ספר)
2. השכיח והחציון בגרף ההתפלגות הנורמלית (ללא ספר)
3. חישובי הסתברויות בגרף ההתפלגות הנורמלית (ללא ספר)
4. חישובי כמויות (ללא ספר)
5. סרטוט גרף התפלגות וחישובי סימטריה (ללא ספר)
6. מציאת הממוצע וסטיית התקן (ללא ספר)
7. חצאי סטיית תקן בגרף ההתפלגות (ללא ספר)
8. שאלות מסכמות כדוגמת המאגר (ללא ספר)

מכינה למתמטיקה 3 יחידות לימוד

פרק 22 - חשבון דיפרנציאלי - פונקצית הפולינום

תוכן העניינים

1. חזרה כללית (ללא ספר)
2. הנגזרת (ללא ספר)
3. שיפוע משיק לגרף הפונקציה (ללא ספר)
4. מציאת משוואת משיק לגרף הפונקציה (ללא ספר)
5. חקירת פונקצית פולינום (ללא ספר)
6. הנגזרת השנייה של פונקציה (ללא ספר)
7. מקסימום ומינימום מוחלטים (ללא ספר)
8. שאלות עם פרמטרים (ללא ספר)
9. מציאת נקודת השקה לפי שיפוע המשיק (ללא ספר)