

# מכינה למבחן פטור (חדוא 0)



## תוכן העניינים

1	מבוא לאלגברה
47	משוואות אלגבריות
69	אי שוויונים אלגבריים
85	חוקי החזקות והשורשים
95	משוואות ואי-שוויונים מעריכיים
105	חוקי הלוגריתמים, משוואות ואי-שוויונים לוגריתמים
121	סדרות
145	טריגונומטריה במשולש ישר זווית
150	זהויות טריגונומטריות
171	משוואות טריגונומטריות
192	גיאומטריה אנליטית - נקודה וישר
217	מספרים מרוכבים
233	חשבון דיפרנציאלי - נגזרות ומשיקים
248	חשבון דיפרנציאלי - חקירת פונקצית פולינום
261	חשבון דיפרנציאלי - חקירת פונקצית מנה ושורש
299	חשבון דיפרנציאלי - חקירת פונקציות טריגונומטריות
(ללא ספר)	חשבון דיפרנציאלי - הקשר שבין גרף הפונקציה וגרף הנגזרת
317	חשבון דיפרנציאלי - בעיות קיצון
339	חשבון דיפרנציאלי - פונקציות מעריכיות
355	חשבון דיפרנציאלי - פונקציות לוגריתמיות
371	חשבון דיפרנציאלי - פונקצית חזקה עם מעריך רציונאלי
380	חשבון אינטגרלי - האינטגרל הכללי
387	חשבון אינטגרלי - האינטגרל המסוים וחישובי שטחים

# תוכן העניינים

24. חשבון אינטגרלי - פונקציה מעריכית, לוגריתמית וחזקה ..... 415
25. חשבון דיפרנציאלי - הזזות ומתיחות של פונקציות ..... 433

# מכינה למבחן פטור (חדוא 0)

## פרק 1 - מבוא לאלגברה

### תוכן העניינים

1	מספרים מכוונים	1
5	חזקות ושורשים עם מספרים מכוונים	5
7	סדר פעולות חשבון עם מספרים מכוונים	7
8	שברים פשוטים, עשרוניים ואחוזים	8
14	כפל וחילוק שברים	14
16	חיבור וחסור שברים	16
20	בעיות יסודיות באחוזים	20
22	חזרה על תבניות מספר	22
24	כינוס איברים	24
26	פישוט ביטויים על ידי פתיחת סוגריים	26
28	פישוט ביטויים באמצעות נוסחאות הכפל המקוצר	28
30	פירוק לגורמים של ביטויים אלגברים	30
33	פירוק הטרינום	33
35	שברים אלגברים	35
39	כפל וחילוק של שברים אלגברים	39
41	חיבור וחסור של שברים אלגברים	41
45	שברים כפולים	45

## מספרים מכוונים:

### סיכום כללי:

מספרים מכוונים הם מספרים שיכולים לקבל סימן חיובי או שלילי, כגון:

- בקניון גדול ישנן קומות 1, 2, 3, 4, וכן חניונים הממוקמים בקומות 1-, 2-, ו-3-.
- גובה פני הים מוגדר להיות 0 מטרים. העיר חיפה נמצאת כ-103 מטרים מעל פני הים בעוד שים המלח נמצא בגובה 426- מטרים.

### כללים:

- כאשר מחברים שני מספרים בעלי סימנים זהים, מחברים את המספרים עצמם והסימן נשאר.
- כאשר מחברים שני מספרים בעלי סימנים מנוגדים, מחסירים את המספרים זה מזה (הקטן מהגדול) וסימן התוצאה כסימן המספר הגדול מביניהם.
- כפל וחילוק יתבצע בשני חלקים:
  - ביצוע הפעולה על המספרים עצמם.
  - קביעת הסימן של התוצאה באופן הבא:
    - כפל או חילוק של שני מספרים בעלי אותו סימן - התוצאה תהיה חיובית.
    - כפל או חילוק של שני מספרים שונים סימן - התוצאה תהיה שלילית.

### הערה:

אם יש רצף של מכפלות (או חילוקים), סימן התוצאה תלוי במספר הפעמים שבהם מופיע סימן שלילי (-). אם הסימן מופיע מספר זוגי של פעמים התוצאה חיובית, ואם הוא מופיע מספר אי-זוגי של פעמים אזי התוצאה שלילית.

## שאלות:

(1) סמנו את המספרים הבאים על ציר המספרים בהתאמה:

$$-3\frac{1}{2}, 4, 1\frac{1}{3}, -5, -\frac{1}{2}, 2, 0, \frac{1}{2}, -2$$



(2) חשבו את ערכי הביטויים הבאים:

ב.  $-3-2$

א.  $3+2$

ד.  $-3+2$

ג.  $3-2$

ו.  $7+10$

ה.  $-1-4$

ח.  $-7+3$

ז.  $-6+5$

(3) חשבו את ערכי הביטויים הבאים:

ב.  $5-8-12+17$

א.  $5+7-23+1$

ד.  $-4-11+2+9$

ג.  $3-14+2+6$

ו.  $-7-13+5-3$

ה.  $6-21+3-7$

(4) חשב את ערכי הביטויים הבאים:

ב.  $4 \cdot (-7)$

א.  $4 \cdot 9$

ד.  $(-5) \cdot (-3)$

ג.  $(-6) \cdot (-5)$

ו.  $(-8) \cdot 5$

ה.  $(-2) \cdot 8$

ח.  $2 \cdot 3 \cdot 3$

ז.  $(-2) \cdot (-3) \cdot (-3)$

י.  $(-2) \cdot (-3) \cdot 3$

ט.  $(-2) \cdot 3 \cdot (-3)$

יב.  $(-2) \cdot (-3) \cdot (-3) \cdot (-2)$

יא.  $2 \cdot 3 \cdot (-3)$

יד.  $1 \cdot (-2) \cdot (-4) \cdot 2$

יג.  $(-1) \cdot (-2) \cdot (-4) \cdot 2$

5) מהו הסימן של תוצאת המכפלה בכל מקרה :

א.  $(-2) \cdot (-4) \cdot (-3) \cdot (-10) \cdot (-6) \cdot (-5)$

ב.  $(-1) \cdot 2 \cdot 4 \cdot (-3) \cdot (-10) \cdot 6 \cdot (-5)$

ג.  $(-1) \cdot 2 \cdot 4 \cdot (-3) \cdot (-10) \cdot (-6) \cdot (-5)$

ד.  $(-1) \cdot 2 \cdot 4 \cdot (-3) \cdot (-10) \cdot 6 \cdot 5$

6) חשבו את ערכי הביטויים הבאים :

ב.  $(-30):3$

א.  $(-25):(-5)$

ד.  $(-32):(-4)$

ג.  $40:(-10)$

ו.  $4:(-16)$

ה.  $(-6):18$

7) חשבו את ערכי הביטויים הבאים :

ב.  $\frac{42}{-6}$

א.  $\frac{-60}{12}$

ד.  $\frac{-12}{-3}$

ג.  $\frac{32}{-4}$

8) מה התוצאה של כל אחת מהפעולות הבאות :

ב.  $(-2) \cdot 0$

א.  $0:5$

ד.  $6:0$

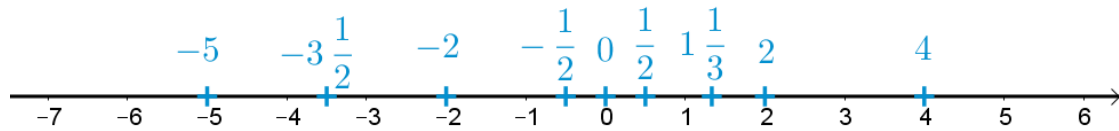
ג.  $0 \cdot (-3) \cdot 4$

ו.  $0-4$

ה.  $0+4$

## תשובות סופיות:

(1) להלן מערכת הצירים:



- (2) א. 5    ב. -5    ג. 1    ד. -1    ה. -5
- ו. 17    ז. -1    ח. -4
- (3) א. -10    ב. 2    ג. -3    ד. -4    ה. -19    ו. -18
- (4) א. 36    ב. -28    ג. 30    ד. 15    ה. -16
- ו. -40    ז. -18    ח. 18    ט. 18    י. 18
- יא. -18    יב. 36    יג. -16    יד. 16
- (5) א. +    ב. +    ג. -    ד. -
- (6) א. 5    ב. -10    ג. -4    ד. 8    ה.  $-\frac{1}{3}$     ו.  $-\frac{1}{4}$
- (7) א. -5    ב. -7    ג. -8    ד. 4
- (8) א. 0    ב. 0    ג. 0    ד. לא מוגדר    ה. 4    ו. -4

## חזקות ושורשים עם מספרים מכוונים:

### סיכום כללי:

#### הגדרה:

פעולת החזקה היא צורה מקוצרת שמייצגת פעולת כפל של אותו מספר בעצמו מספר פעמים. סימון החזקה הוא באופן הבא:

$$a^n = \underbrace{a \cdot a \cdot a \cdot \dots \cdot a}_n$$

כאשר  $a$  נקרא הבסיס ו- $n$  נקראת החזקה.

#### הערות:

- כאשר הבסיס חיובי, התוצאה תמיד תהיה חיובית ללא קשר האם החזקה היא זוגית או אי-זוגית.
- כאשר הבסיס שלילי, התוצאה תהיה חיובית אם החזקה היא זוגית ושלילית אם החזקה היא אי-זוגית.

#### הגדרה:

פעולת השורש היא הפוכה לפעולת החזקה והיא מאפשרת למצוא את בסיס החזקה. סימון השורש הוא באופן הבא:

$$\sqrt[n]{a}$$

כאשר  $a$  נקרא הבסיס ו- $n$  נקרא סדר השורש.

#### הערות:

- שורש למספר חיובי יכול להיות מסדר זוגי או אי-זוגי.
- שורש למספר שלילי יכול להיות מסדר אי-זוגי בלבד.

## שאלות:

(1) חשב את ערכי הביטויים הבאים:

- |              |               |
|--------------|---------------|
| א. $3^2$     | ב. $3^3$      |
| ג. $(-3)^3$  | ד. $(-2)^3$   |
| ה. $4^3$     | ו. $3^4$      |
| ז. $(-5)^3$  | ח. $10^4$     |
| ט. $-(-3)^4$ | י. $-5^4$     |
| יא. $-4^3$   | יב. $-(-2)^6$ |

(2) חשב את ערכי הביטויים הבאים:

- |                    |                      |
|--------------------|----------------------|
| א. $\sqrt[3]{-27}$ | ב. $\sqrt[4]{625}$   |
| ג. $\sqrt[4]{-16}$ | ד. $\sqrt[5]{-32}$   |
| ה. $-\sqrt[4]{81}$ | ו. $-\sqrt[3]{1000}$ |

## תשובות סופיות:

- |         |          |             |         |         |         |
|---------|----------|-------------|---------|---------|---------|
| א. 9    | ב. 27    | ג. -27      | ד. -8   | ה. 64   | ו. 81   |
| ז. -125 | ח. 10000 | ט. -81      | י. -625 | יא. -64 | יב. -64 |
| א. -3   | ב. 5     | ג. לא מוגדר | ד. -2   | ה. -3   | ו. -10  |

## סדר פעולות חשבון עם מספרים מכוונים:

סיכום כללי:

סדר פעולות חשבון:

- פעולות כפל וחילוק קודמות לפעולות חיבור וחסור.
- פעולות חזקה ושורש קודמות לפעולות כפל וחילוק.
- סוגריים קודמים לכל.

שאלות:

חשב את ערכי הביטויים הבאים:

$(-3)^2 : 9 - 2 \cdot (-4^2)$ (2)	$\sqrt{81} + 3 \cdot 2^3 - 40 : 8$ (1)
$3 + 4 \cdot [-3 + 4 \cdot (-2)] + \sqrt{10 + 6}$ (4)	$\sqrt{144} - 20 : 4 + 3 \cdot (-2)^2$ (3)
$-\sqrt{9} + 5^2 : (-4 - 1) - 24 : 12 \cdot 3$ (6)	$(-3)^4 : (-9) - 5 \cdot (-2)^3$ (5)
$\sqrt[3]{-27} + 4 \cdot 3^2 - 2 \cdot 3^3$ (8)	$-2^5 : (-8) + 4^2 - 3 \cdot 5$ (7)
$(8 - \sqrt[3]{64}) \cdot (2 \cdot (-4) - \sqrt[3]{243})$ (10)	$[6 \cdot (-1)^4 - 10 \cdot (-1)^3] \cdot (-1)^5$ (9)
	$\frac{3^2 \cdot (8 - 2 \cdot 3)^3}{(5^2 \cdot 3 - 72) \cdot (-4)} + 2 \cdot \{15 - 20 : (4 + 3 \cdot 2)\}$ (11)

תשובות סופיות:

-37 (4)	19 (3)	33 (2)	28 (1)
-21 (8)	5 (7)	-14 (6)	31 (5)
	20 (11)	-44 (10)	-16 (9)

## שברים פשוטים, עשרוניים ואחוזים:

**סיכום כללי:**

**הגדרה כללית:**

השבר הוא חלק מתוך השלם. מקובל לסמן שבר באמצעות קו שבר המפריד בין המונה (החלק העליון) למכנה (החלק התחתון) באופן הבא:

$$\frac{\text{מונה}}{\text{מכנה}}$$

**ישנם שלושה סוגים אפשריים של שברים:**

- שבר פשוט – בו המונה קטן מהמכנה (ולכן תמיד יהיה קטן מ-1).
- שבר מדומה – בו המונה גדול מהמכנה (יהיה גדול בערכו מ-1).
- שבר מעורב – המכיל שילוב של מספר שלם ושבר כלשהו.

**שבר עשרוני:**

שבר שהמכנה שלו הוא מספר המהווה כפולות של 10 כגון: 10, 100, 1000 ... שבר עשרוני מיוצג ע"י נקודה עשרונית אשר מבדילה בין החלק שלם לחלק השברי באופן הבא:

$$\underbrace{XX}_{\text{שברים שלמים}}.\underbrace{YYY}$$

כדי להמיר שבר פשוט לשבר עשרוני המכנה צריך להיות בכפולות של 10.

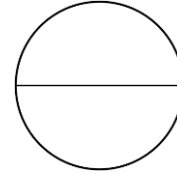
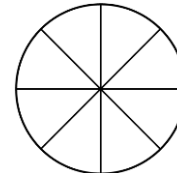
**אחוזים - הגדרה:**

השבר  $\frac{1}{100}$  מוגדר להיות אחוז אחד ומסומן באופן הבא: 1%.

באופן זה השבר  $\frac{45}{100}$  יכתב: 45%, והשבר  $\frac{145}{100}$  יכתב: 145%.

## שאלות:

(1) צבע את החלקים המתאימים בכל עיגול:

ב. צבע  $\frac{1}{6}$  מהעיגולא. צבע  $\frac{1}{2}$  מהעיגולד. צבע  $\frac{2}{5}$  מהעיגולג. צבע  $\frac{3}{8}$  מהעיגול

(2) כתוב את השבר המתאים לחלקים הצבועים בכל אחד מהמקרים הבאים:

ב. שבר:



א. שבר:



ד. שבר:



ג. שבר:



(3) הרחב את השברים הבאים:

א. השבר  $\frac{1}{2}$  לפי בסיס 4, לפי בסיס 18, לפי בסיס 40.ב. השבר  $\frac{3}{5}$  לפי בסיס 10, לפי בסיס 25, לפי בסיס 60.ג. השבר  $\frac{5}{8}$  לפי בסיס 16, לפי בסיס 32, לפי בסיס 88.

(4) צמצם את השברים הבאים ככל הניתן :

א. $\frac{25}{30}$	ב. $\frac{10}{30}$	ג. $\frac{6}{24}$	ד. $\frac{4}{20}$
ה. $\frac{35}{56}$	ו. $\frac{24}{42}$	ז. $\frac{36}{48}$	ח. $\frac{33}{121}$

(5) המר את השברים המדומים הבאים לשברים מעורבים :

א. $-\frac{20}{3}$	ב. $\frac{19}{4}$	ג. $\frac{12}{5}$	ד. $\frac{22}{5}$
ה. $-\frac{34}{6}$	ו. $-\frac{50}{7}$	ז. $\frac{47}{8}$	ח. $\frac{60}{9}$

(6) המר את השברים המעורבים הבאים לשברים מדומים :

א. $1\frac{2}{3}$	ב. $3\frac{5}{6}$	ג. $4\frac{1}{2}$	ד. $6\frac{1}{4}$
ה. $11\frac{3}{4}$	ו. $-2\frac{5}{8}$	ז. $-6\frac{2}{7}$	ח. $12\frac{7}{9}$

(7) קבע איזה שבר גדול יותר בכל אחד מהמקרים הבאים :

א. $\frac{4}{10}$ או $\frac{3}{10}$	ב. $\frac{7}{6}$ או $\frac{7}{8}$
ג. $\frac{5}{6}$ או $\frac{2}{3}$	ד. $\frac{7}{12}$ או $\frac{5}{18}$

(8) המר את השברים העשרוניים הבאים לשברים פשוטים מצומצמים או מעורבים :

א. 0.7	ב. 0.07	ג. 0.007	ד. 0.34
ה. 0.304	ו. 0.65	ז. 1.2	ח. 1.02
ט. 1.42	י. 3.5	יא. 6.03	יב. 5.125

9) המר את השברים הבאים לשברים עשרוניים:

א. $\frac{3}{10}$	ב. $\frac{3}{100}$	ג. $\frac{3}{1000}$	ד. $\frac{23}{1000}$
ה. $\frac{1}{2}$	ו. $\frac{3}{4}$	ז. $\frac{2}{5}$	ח. $\frac{4}{25}$
ט. $\frac{7}{50}$	י. $\frac{3}{20}$	יא. $\frac{7}{8}$	יב. $\frac{9}{16}$
יג. $9\frac{1}{10}$	יד. $3\frac{1}{5}$	טו. $4\frac{7}{8}$	טז. $-4\frac{1}{16}$

10) כתוב את השברים הבאים בצורתם העשרונית (היעזר במחשבון וכתוב עד 3 ספרות אחרי הנקודה העשרונית):

א. $\frac{2}{3}$	ב. $\frac{5}{6}$	ג. $\frac{3}{7}$	ד. $\frac{2}{11}$
------------------	------------------	------------------	-------------------

11) המר מאחוזים לשברים פשוטים:

א. 25%	ב. 32%	ג. 64%	ד. 80%
ה. 120%	ו. 5%	ז. 300%	ח. 150%

12) המר משברים פשוטים לאחוזים:

א. $\frac{3}{4}$	ב. $\frac{1}{8}$	ג. $\frac{4}{5}$	ד. $\frac{7}{20}$
ה. $\frac{11}{40}$	ו. $\frac{70}{125}$	ז. $\frac{5}{6}$	ח. $\frac{4}{9}$

## תשובות סופיות:

- (1) תשובה מודגמת בסרטון.
- (2) א.  $\frac{1}{5}$  ב.  $\frac{1}{6}$  ג.  $\frac{2}{3}$  ד.  $\frac{3}{4}$
- (3) א.  $\frac{4}{8}, \frac{18}{36}, \frac{40}{80}$  ב.  $\frac{30}{50}, \frac{75}{125}, \frac{180}{300}$  ג.  $\frac{80}{128}, \frac{160}{256}, \frac{440}{700}$
- (4) א.  $\frac{5}{6}$  ב.  $\frac{1}{3}$  ג.  $\frac{1}{4}$  ד.  $\frac{1}{5}$  ה.  $\frac{5}{8}$  ו.  $\frac{4}{7}$
- (5) א.  $-6\frac{2}{3}$  ב.  $4\frac{3}{4}$  ג.  $2\frac{2}{5}$  ד.  $4\frac{2}{5}$  ה.  $-5\frac{4}{6}$  ו.  $-7\frac{1}{7}$
- (6) א.  $\frac{5}{3}$  ב.  $\frac{23}{6}$  ג.  $\frac{9}{2}$  ד.  $\frac{25}{4}$  ה.  $\frac{47}{4}$  ו.  $-\frac{21}{8}$
- (7) א.  $\frac{4}{10}$  ב.  $\frac{7}{6}$  ג.  $\frac{5}{6}$  ד.  $\frac{7}{12}$
- (8) א.  $\frac{7}{10}$  ב.  $\frac{7}{100}$  ג.  $\frac{7}{1000}$  ד.  $\frac{17}{50}$  ה.  $\frac{38}{125}$  ו.  $\frac{13}{20}$
- (9) א. 0.3 ב. 0.03 ג. 0.003 ד. 0.023 ה. 0.5 ו. 0.75
- א. 0.4 ב. 0.16 ג. 0.14 ד. 0.15 ה. 0.875 ו. -4.0625
- א.  $0.6\bar{6}$  ב.  $0.8\bar{3}$  ג. 0.428 ד.  $0.18\bar{8}$
- (11) א.  $\frac{1}{4}$  ב.  $\frac{8}{25}$  ג.  $\frac{16}{25}$  ד.  $\frac{4}{5}$  ה.  $1\frac{1}{5}$  ו.  $\frac{1}{20}$
- א. 3 ב.  $1\frac{1}{2}$

12) א. 75%    ב. 12.5%    ג. 80%    ד. 35%    ה. 27.5%    ו. 56%

ז. 83.333%    ח. 44.444%

## כפל וחילוק שברים:

### סיכום כללי:

- כשכופלים שני שברים יש לכפול מונה במונה ומכנה במכנה.
  - במידה ומדובר במספר שלם הכופל שבר, יש לכפול אותו במונה.
  - במידה ומדובר בשברים מעורבים, יש להפוך אותם תחילה לשברים מדומים ורק אז לבצע את פעולת הכפל.
- כדי לחלק שברים, יש לכפול את השבר הראשון בהופכי של השבר השני.
  - הופכי של שבר מסוים מתקבל ע"י החלפת המונה במכנה.

### שאלות:

(1) חשב את ערכי הביטויים הבאים:

$\frac{2}{9} \cdot \frac{8}{10}$ ג.	$\frac{2}{7} \cdot \frac{5}{6}$ ב.	$\frac{3}{5} \cdot \frac{3}{4}$ א.
$\frac{12}{25} \cdot 5$ ו.	$6 \cdot \frac{2}{3}$ ה.	$3 \cdot \frac{4}{5}$ ד.
$3\frac{3}{7} \cdot 2\frac{2}{5}$ ט.	$3\frac{1}{2} \cdot 4\frac{2}{5}$ ח.	$1\frac{3}{5} \cdot 2\frac{1}{4}$ ז.
$\frac{4^3}{5}$ יב.	$\frac{4}{5^3}$ יא.	$\left(\frac{4}{5}\right)^3$ י.

(2) חשב את ערכי הביטויים הבאים:

$\frac{3}{25} : \frac{7}{10}$ ג.	$\frac{3}{4} : \frac{1}{2}$ ב.	$\frac{2}{5} : \frac{4}{9}$ א.
$\frac{5}{6} : 3$ ו.	$10 : \frac{2}{3}$ ה.	$8 : \frac{2}{9}$ ד.
$2\frac{2}{5} : 1\frac{3}{15}$ ט.	$3\frac{3}{4} : 5\frac{5}{8}$ ח.	$\frac{2}{5} : 5$ ז.

## תשובות סופיות:

- (1) א.  $\frac{9}{20}$     ב.  $\frac{5}{21}$     ג.  $\frac{8}{45}$     ד.  $2\frac{2}{5}$     ה. 4    ו.  $2\frac{2}{5}$
- ז.  $3\frac{3}{5}$     ח.  $15\frac{2}{5}$     ט.  $8\frac{8}{35}$     י.  $\frac{64}{125}$     יא.  $\frac{4}{125}$     יב.  $12\frac{4}{5}$
- (2) א.  $\frac{9}{10}$     ב.  $1\frac{1}{2}$     ג.  $\frac{6}{35}$     ד. 36    ה. 15    ו.  $\frac{5}{18}$
- ז.  $\frac{2}{25}$     ח.  $\frac{2}{3}$     ט. 2

## חיבור וחסור שברים:

### סיכום כללי:

#### כפולה משותפת מינימלית:

בהינתן זוג מספרים  $a$  ו- $b$ , המספר הקטן ביותר אשר תוצאת חלוקתו במספרים הנ"ל מניבה מספר שלם נקרא הכפולה המינימלית שלהם.

#### הערות:

- כפולה מינימלית יכולה להיות גם עבור יותר משני מספרים.
- הכפולה המינימלית תהיה המכנה המשותף בעת פעולות חיבור וחסור של שברים.

#### כללי החיבור והחסור של שברים:

- חיבור וחסור של שברים בעלי אותו המכנה מתבצע על המספרים שבמונה בלבד כאשר המכנה נשאר כפי שהוא.

$$\text{דוגמא: } \frac{2}{7} - \frac{3}{7} = \frac{2-3}{7} = \frac{-1}{7}, \quad \frac{2}{7} + \frac{3}{7} = \frac{2+3}{7} = \frac{5}{7}$$

- חיבור וחסור של שברים בעלי מכנים שונים מתבצע ע"י פעולת מכנה משותף.

$$\text{דוגמא: } \frac{1}{4} - \frac{5}{6} = \frac{3}{12} - \frac{10}{12} = \frac{3-10}{12} = -\frac{7}{12}, \quad \frac{2}{5} + \frac{1}{3} = \frac{6}{15} + \frac{5}{15} = \frac{6+5}{15} = \frac{11}{15}$$

- חיבור של שבר עם מספר שלם יתבצע באופן ישיר.

$$\text{דוגמא: } 3 + \frac{1}{4} = 3\frac{1}{4}$$

חסור של שבר ממספר שלם יתבצע ע"י הוצאת שלמים מהשבר.

$$\text{דוגמא: } 3 - \frac{1}{4} = 2\frac{4}{4} - \frac{1}{4} = 2\frac{3}{4}$$

דרך נוספת היא ע"י העברת המספר השלם לשבר מדומה:  $3 - \frac{1}{4} = \frac{12}{4} - \frac{1}{4} = \frac{11}{4} = 2\frac{3}{4}$

- חיבור וחסור של שברים מעורבים יתבצע ע"י העברתם לשברים מדומים תחילה.

$$\text{דוגמא: } 3\frac{2}{5} + 2\frac{1}{6} = \frac{17}{5} + \frac{13}{6} = \frac{17 \cdot 6}{30} + \frac{13 \cdot 5}{30} = \frac{102 + 65}{30} = \frac{167}{30} = 5\frac{17}{30}$$

ניתן גם לפצל ולבצע את פעולת החיבור (או החיסור) של המספרים השלמים תחילה, ולאחר מכן לבצע את הפעולה עבור השברים.

$$\text{דוגמא: } 2\frac{3}{4} - 5\frac{1}{3} = (2 - 5) + \left(\frac{3}{4} - \frac{1}{3}\right) = -3 + \left(\frac{9}{12} - \frac{4}{12}\right) = -3 + \frac{5}{12} = -2\frac{7}{12}$$

## שאלות:

- (1) מצא את הכפולה המשותפת המינימלית של המספרים הבאים:

א. 2 ו-3	ב. 2 ו-4	ג. 3 ו-5	ד. 6 ו-10
ה. 4 ו-10	ו. 4 ו-6	ז. 3, 5 ו-10	ח. 2, 3 ו-8

- (2) חשב את ערכי הביטויים הבאים:

א. $\frac{1}{5} + \frac{3}{5}$	ב. $\frac{5}{9} + \frac{2}{9}$
ג. $\frac{4}{13} + \frac{9}{13}$	ד. $\frac{7}{8} + \frac{7}{8}$
ה. $\frac{7}{8} - \frac{3}{8}$	ו. $\frac{8}{9} - \frac{7}{9}$
ז. $\frac{2}{12} - \frac{5}{12}$	ח. $\frac{2}{5} - \frac{6}{5}$
ט. $\frac{2}{8} + \frac{5}{8} + \frac{6}{8}$	י. $\frac{7}{15} + \frac{8}{15} - \frac{6}{15}$

(3) חשב את ערכי הביטויים הבאים:

א.  $\frac{1}{2} + \frac{4}{3}$

ב.  $\frac{3}{5} + \frac{1}{10}$

ג.  $\frac{4}{6} - \frac{1}{12}$

ד.  $\frac{3}{6} - \frac{5}{8}$

ה.  $\frac{5}{4} + \frac{7}{2} + \frac{2}{8}$

ו.  $\frac{7}{3} + \frac{6}{5} + \frac{3}{10}$

ז.  $\frac{4}{7} - \frac{1}{6} + \frac{1}{2}$

ח.  $\frac{1}{4} + \frac{2}{8} - \frac{3}{5}$

(4) חשב את ערכי הביטויים הבאים:

א.  $2 + \frac{5}{6}$

ב.  $2 - \frac{5}{6}$

ג.  $2\frac{1}{4} + \frac{5}{6}$

ד.  $2\frac{1}{4} - \frac{5}{6}$

ה.  $3\frac{2}{3} + 4\frac{1}{4}$

ו.  $5\frac{7}{8} - 6\frac{1}{2}$

ז.  $2 + \frac{5}{6} - \frac{1}{9}$

ח.  $\frac{3}{4} - 1\frac{1}{5} + \frac{8}{20}$

(5) חשב את ערכי הביטויים הבאים:

א.  $\frac{1}{2} \cdot \left(1 - \frac{3}{4}\right) + 2\frac{1}{3}$

ב.  $\frac{3}{14} : \frac{2}{7} + \frac{1}{3} \cdot 2\frac{1}{4} - \frac{2}{5}$

ג.  $\frac{5}{11} \cdot 2\frac{3}{4} - 6 : \frac{2}{5}$

ד.  $2\frac{4}{5} : \frac{9}{10} \cdot \frac{6}{7} + \frac{1}{6}$

ה.  $\frac{5}{6} : \frac{3}{4} + \frac{2}{3} \cdot 3\frac{1}{4}$

## תשובות סופיות:

12 .ג	20 .ה	30 .ד	15 .ג	4 .ב	6 .א (1
				24 .ח	30 .ז
$\frac{1}{9}$ .ג	$\frac{1}{2}$ .ה	$1\frac{3}{4}$ .ד	1 .ג	$\frac{7}{9}$ .ב	$\frac{4}{5}$ .א (2
		$\frac{3}{5}$ .י	$1\frac{5}{8}$ .ט	$-\frac{4}{5}$ .ח	$-\frac{1}{4}$ .ז
$3\frac{5}{6}$ .ג	5 .ה	$-\frac{1}{8}$ .ד	$\frac{7}{12}$ .ג	$\frac{7}{10}$ .ב	$1\frac{5}{6}$ .א (3
				$-\frac{1}{10}$ .ח	$\frac{19}{21}$ .ז
$-\frac{5}{8}$ .ג	$7\frac{11}{12}$ .ה	$1\frac{5}{12}$ .ד	$3\frac{1}{12}$ .ג	$1\frac{1}{6}$ .ב	$2\frac{5}{6}$ .א (4
				$-\frac{1}{20}$ .ח	$2\frac{13}{18}$ .ז
	$3\frac{5}{18}$ .ה	$2\frac{5}{6}$ .ד	$-13\frac{3}{4}$ .ג	$1\frac{1}{10}$ .ב	$2\frac{11}{24}$ .א (5

## בעיות יסודיות באחוזים:

### סיכום כללי:

נוסחה לביצוע חישובים עם אחוזים:

$$\text{תמורת האחוז} = \text{שלם} \cdot \frac{\text{אחוז}}{100}$$

למשל, בהינתן גודל שלם 120, אשר יש לחשב כמה הם 40 אחוזים ממנו, נקבל לפי הנוסחה:  $48 = 120 \cdot \frac{40}{100}$ , כלומר: **תמורת האחוז 40 מהגודל 120 היא 48.**

### שאלות:

- (1) בכיתה 30 תלמידים. 60% מתוכם בנות.
  - א. כמה בנות בכיתה?
  - ב. כמה בנים בכיתה?
- (2) בכיתה 28 בנות המהוות 70% מכלל התלמידים בכיתה.
  - א. כמה תלמידים בכיתה?
  - ב. כמה בנים בכיתה?
- (3) מחיר בגד-ים הוא 300 ₪. בסוף העונה הוא נמכר ב-20% הנחה.
  - א. מהו מחירו בסוף העונה?
  - ב. מה גודל ההנחה?
- (4) מחיר ההשקה של בושם מסוים הוא 500 ₪. לאחר מכן מועלה מחירו ב-8%.
  - א. מה מחירו הסופי?
  - ב. מה גודל ההתייקרות?
- (5) מחיר ליטר דלק הוא 5 ₪ לליטר. בחנוכה מוזל מחירו ב-7%.
  - א. מה מחירו בסוף השנה?
  - ב. מה גודל התייקרות?
- (6) מוצר מסויים מתייקר בסוכות ב-12%. בפורים מוזל המוצר ב-12%.
  - א. מה מחירו בסוף השנה?
  - ב. מה גודל התייקרות?

7) ענה על השאלות הבאות:

- א. באולם קולנוע 200 צופים, מתוכם 176 בנים.  
מה אחוז הבנים בקהל?
- ב. בכיתה 30 תלמידים, מתוכם 18 בנות.  
מה אחוז הבנות בכיתה?
- ג. מחיר מוצר התייקר מ-80 ₪ ל-120 ₪.  
בכמה אחוזים התייקר המוצר?
- ד. מחיר מוצר הוזל מ-120 ₪ ל-80 ₪.  
בכמה אחוזים הוזל המוצר?
- ה. מחיר מוצר התייקר מ-150 ₪ ל-200 ₪.  
בכמה אחוזים התייקר המוצר?
- ו. מחיר מוצר הוזל מ-200 ₪ ל-150 ₪.  
בכמה אחוזים הוזל המוצר?

### תשובות סופיות:

- 1) א. 18 בנות. ב. 12 בנים.
- 2) א. 40 תלמידים. ב. 12 בנים.
- 3) א. 240 ₪. ב. 60 ₪.
- 4) א. 540 ₪. ב. 40 ₪.
- 5) א. 4.9755 ₪.
- 6) א. 400 ₪.
- 7) א. 88%. ב. 60%. ג. 50%. ד. 33.33%. ה. 33.33%. ו. 25%.

## חזרה על תבניות מספר:

### סיכום כללי:

משתנה הוא סמל המתאר כמות או גודל כלשהם אשר אינם ידועים ועשויים להשתנות.

תבנית מספר היא ביטוי אלגברי אשר מכיל משתנה (או משתנים). ניתן להציב במשתנים ערכים מספריים שונים ולקבל תוצאות שונות עבור תבנית המספר עצמה.

במתמטיקה, תפקידה של תבנית המספר הוא להביע גודל מסוים אשר לערכו יש משמעויות שונות. דוגמא לכך היא: קנייה של  $x$  פריטים, אשר כל אחד עולה 3 שקלים, יניבו תבנית מספר של  $3 \cdot x$  אשר מייצגת את הסכום הכולל של הפריטים.

### שאלות:

(1) חשב את ערכי הביטויים האלגבריים הבאים עבור ה- $x$  הנתון:

א.  $2x+5$  כאשר  $x=3$       ב.  $x^2+3x$  כאשר  $x=2$

ג.  $-x^2+2x+3$  כאשר  $x=5$       ד.  $-x^2-9x+5$  כאשר  $x=5$

ה.  $x^3+1$  כאשר  $x=-2$       ו.  $4-x^3$  כאשר  $x=-1$

ז.  $(x+1)(2-x)$  כאשר  $x=4$       ח.  $x^2(3x-4)$  כאשר  $x=3$

(2) חשב את ערכי הביטויים האלגבריים הבאים עבור ה- $x$  הנתון:

א.  $27x^5-2x^3+x$  כאשר  $x=\frac{1}{3}$

ב.  $\frac{1}{3}x^2+\frac{1}{2}x+6$  כאשר  $x=-\frac{2}{3}$

3) הצב את הערכים המספריים במקום הפרמטרים וחשב את ערך תבנית המספר:

- |                                  |   |
|----------------------------------|---|
| א. $a^2 + 2ab + b^2$             | עבור: $a = 3, b = -5$                                   |
| ב. $(x-3)^2 + 3x^2b$             | עבור: $x = 5, b = -1$                                   |
| ג. $-x^3 - 2xy + y^4$            | עבור: $x = -2, y = -1$                                  |
| ד. $\frac{(a-2c)^4}{a} - a^2$    | עבור: $a = 2, c = -2$                                   |
| ה. $\frac{4a^2 - 3b}{c}$         | עבור: $a = -1, b = 2, c = -4$                           |
| ו. $\sqrt{c-3a}$                 | עבור: $c = 13, a = -1$ ועבור: $c = 82, a = \frac{1}{3}$ |
| ז. $\frac{p^3 + 2\sqrt{q+1}}{m}$ | עבור: $p = -5, q = 48, m = 3$                           |

### תשובות סופיות:

- |                                 |                    |        |        |                  |      |
|---------------------------------|--------------------|--------|--------|------------------|------|
| 11 א. (1)                       | 10 ב.              | ג. -12 | ד. -65 | ה. -7            | ו. 5 |
| ז. -10                          | ח. 45              |        |        |                  |      |
| 10 א. (2)                       | ב. $\frac{22}{27}$ |        |        |                  |      |
| 4 א. (3)                        | ב. -71             | ג. 5   | ד. 644 | ה. $\frac{1}{2}$ |      |
| ו. הצבה ראשונה: 4, הצבה שניה: 9 | ז. -37             |        |        |                  |      |

## כינוס איברים:

### סיכום כללי:

תבניות אלגבריות יכולות להכיל איברים רבים ולכן נרצה לכנס אותם על מנת לפשט את התבנית. כדי לכנס איברים ניקח את כל קבוצת האיברים מאותו הסוג ונחבר את המקדמים שלהם. דוגמא:  $3x + 6x - 5x = (3 + 6 - 5)x = 4x$ .  
 איברים שונים נבדלים זה מזה בערך התבנית האלגברית שלהם.  
 כך:  $3x$  שונה מ- $4y$  ושונה מ- $2xy$ . באותו האופן, האיברים  $x$  ו- $x^2$  הם שונים.

### שאלות:

כנס איברים דומים:

- |   |  |
|---|--|
| $9x^2 - 2x^2 - 3x^2 - 2x^2$ (2)   | $5x + 7x - 4x$ (1)                             |
| $x^2y - 3yx^2 + x^2y$ (4)   | $-10xy + 15xy + xy - 2yx$ (3)                  |
| $2x^2 - 3m^2 - x^2 + 3m^2$ (6)  | $8a^2 + 10a - 5a^2 - 11a + a^2$ (5)            |
| $mn^2 + 4m^2n + 6n^2m - 10nm^2 + mn^2$ (8)  | $3xy + y - 30y + 6yx - 7y$ (7)                 |
| $y^2 + x^2 - 5x^2 + 5y^2 + 4x^2 - 6y^2$ (10)  | $-6 + x^3 + 4 - 3x^3 + 17x^3 - 17$ (9)         |
| $5xy + 2x - 3yx - x + 1$ (12)   | $7x^2 - 3x - 4x + 2$ (11)                      |
| $x + xy + y - 6yx - 6y - 6x$ (14)   | $3 - x - x^2 + 4x + 5x^2 - 12$ (13)            |
| $ab^2 + 6ba^2 - 6b + 16a^2b + 3b - 6b^2a$ (16)  | $mn + n - 5m + 5nm - 14n + 3m$ (15)            |
| $4x^2z + 6xz^2 - 6 - xz^2 + 12 + 10zx^2$ (18)   | $z^3 - 4z^2 + 7 - z^3 - 8 + 8z^2$ (17)         |
| $x^3 - 3x - 4x^2 + 2x + x^3 + x^2 - 2x^3$ (20)  | $2 - x^3 - 3 - 4x^2 + 2x + x^3 + x^2 - 2$ (19) |
| $12x^2y^3 + 13a^2 - 20x^2y^3 + 2a^2$ (22)   | $2a^2b + 3x^2y + 5a^2b + 10x^2y$ (21)          |
| $-2x^3y + 5x^2 - 4yx^3 - 6x^2$ (24)   | $2y^2 - 4x^3y^2 - 10y^2 - x^3y^2$ (23)         |
| $5a^2b - 8ab^2 + 20a^2b - 14ab^2$ (26)  | $2a^2b + 2b + 3a^2 + 5b$ (25)                  |
| $-12x^2 + 2y^2 + 3x^2y + 14xy^2 - 5xy^2 - 6y^2 + 2xy + 11x^2 + x^2y - 9xy$ (27)               |  |
| $21x^3y^3 + x^2y^2 - 3xy^3 + x^3y - 15x^2y^2 - 7x^3y + 12x^3y^3 - 4xy^3 + 4xy^3 - 6x^3y$ (28) |  |

## תשובות סופיות:

- |                           |                        |   |
|---------------------------|------------------------|---|
| $4xy$ (3)                 | $2x^2$ (2)             | $8x$ (1)                                    |
| $x^2$ (6)                 | $4a^2 - a$ (5)         | $-x^2y$ (4)                                 |
| $15x^3 - 19$ (9)          | $8mn^2 - 6nm^2$ (8)    | $9xy - 36y$ (7)                             |
| $2xy + x + 1$ (12)        | $7x^2 - 7x + 2$ (11)   | $0$ (10)                                    |
| $-13n - 2m + 6mn$ (15)    | $-5x - 5y - 5xy$ (14)  | $4x^2 + 3x - 9$ (13)                        |
| $14x^2z + 5xz^2 + 6$ (18) | $4z^2 - 1$ (17)        | $-5ab^2 + 22a^2b - 3b$ (16)                 |
| $7a^2b + 13x^2y$ (21)     | $-3x^2 - x$ (20)       | $-3x^2 + 2x - 3$ (19)                       |
| $-6x^3y - x^2$ (24)       | $-8y^2 - 5x^3y^2$ (23) | $-8x^2y^3 + 15a^2$ (22)                     |
|                           | $25a^2b - 22ab^2$ (26) | $2a^2b + 3a^2 + 7b$ (25)                    |
|                           |                        | $-x^2 - 4y^2 + 4x^2y + 9xy^2 - 7xy$ (27)    |
|                           |                        | $33x^3y^3 - 14x^2y^2 - 3xy^3 - 12x^3y$ (28) |

## פישוט ביטויים ע"י פתיחת סוגריים:

### סיכום כללי:

בעת ביצוע כפל בין שני איברים יש לכפול את המקדמים בנפרד ואת האותיות (משתנים) בנפרד.

כלל הפילוג:

$$\bullet a(b+c) = ab+ac$$

$$\bullet (a+b)(c+d) = ac+ad+bc+bd$$

### שאלות:

(1) פשט את הביטויים הבאים:

א. $2x \cdot 3x$	ב. $-4x \cdot (-7x)$	ג. $-2x \cdot (-4x) \cdot (-3)$
ד. $8m^2 \cdot 4m^3$	ה. $3a^3 \cdot (-2a^2)$	ו. $-b \cdot 4b^2 \cdot \frac{b^2}{2}$
ז. $a \cdot 3b$	ח. $4a^2 \cdot 7b^2$	ט. $ab \cdot (-2a^2b)$

(2) פשט את הביטויים הבאים ע"י פתיחת סוגריים:

א. $2(3x-4)$	ב. $2(-3x^2+5x-1)$
ג. $(7x-2)4$	ד. $(1-2x)(-2)$
ה. $a(3a-1)$	ו. $b(b^2-3b+4)$
ז. $2x(5x+3)$	ח. $5x(x^2+2x-3)$
ט. $3t^2(4t-t^2+6)$	י. $\frac{5}{2}(4d^4-3d)d$

(3) פשט את הביטויים הבאים:

א. $5x+(3x-2)+(-4-2x)$	ב. $7x+(-4x-5)+3x+(-1+7x)$
ג. $8-(2x-5)-(4x+2)$	ד. $-6x-(-3x-1)-(-7-4x)+1$

$$\text{ה. } (3-2x^2+4)2+3(x-x^2)-6(7-5x)+4x^2$$

$$\text{ו. } 3y^2-(y+1-2y^2)+6(5y-6)-(-y-4)3+5(y^2+1)-7$$

4 פשט את הביטויים הבאים :

$$\text{א. } (x-1)(x+2) \quad \text{ב. } (x+3)(x-7)$$

$$\text{ג. } (3-x)(x+4) \quad \text{ד. } (3x+4)(5x+1)$$

$$\text{ה. } 3(4x+1)(2x-3) \quad \text{ו. } -2(3x-1)(5-2x)$$

5 פשט את ערכי הביטויים הבאים :

$$\text{א. } (x-1)(x+3)+2(3-x)$$

$$\text{ב. } (a+4)(a-2)-(a+5)(a-3)$$

$$\text{ג. } (2m-3)(4m+3)+5(2m^2-6)$$

$$\text{ד. } -x^2y^2(x^3y+x^2)+2xy(2x^3y-x^4y^2)$$

### תשובות סופיות:

$$\text{(1) א. } 6x^2 \quad \text{ב. } 28x^2 \quad \text{ג. } -24x^2 \quad \text{ד. } 32m^5 \quad \text{ה. } -6a^5 \quad \text{ו. } -2b^5$$

$$\text{ז. } 3ab \quad \text{ח. } 28a^2b^2 \quad \text{ט. } -2a^3b^2$$

$$\text{(2) א. } 6x-8 \quad \text{ב. } -6x^2+10x-2 \quad \text{ג. } 28x-8 \quad \text{ד. } -2+4x$$

$$\text{ה. } 3a^2-a \quad \text{ו. } b^3-3b^2+4b \quad \text{ז. } 10x^2+6x \quad \text{ח. } 5x^3+10x^2-15x$$

$$\text{ט. } 12t^3-3t^4+18t^2 \quad \text{י. } 10d^5-7.5d^2$$

$$\text{(3) א. } 6x-6 \quad \text{ב. } 13x-6 \quad \text{ג. } -6x+11 \quad \text{ד. } x+9 \quad \text{ה. } -3x^2+33x-28$$

$$\text{ו. } 10y^2+32y-27$$

$$\text{(4) א. } x^2+x-2 \quad \text{ב. } x^2-4x-21 \quad \text{ג. } -x^2-x+12$$

$$\text{ד. } 15x^2+23x+4 \quad \text{ה. } 24x^2-30x-9 \quad \text{ו. } 12x^2-34x+10$$

$$\text{(5) א. } x^2+3 \quad \text{ב. } 7 \quad \text{ג. } 18m^2-6m-39 \quad \text{ד. } -3x^5y^3+3x^4y^2$$

## פישוט ביטויים באמצעות נוסחאות הכפל המקוצר:

### סיכום כללי:

- נוסחת ריבוע של סכום/הפרש:  $(a \pm b)^2 = a^2 \pm 2ab + b^2$ .
- נוסחה להפרש ריבועים:  $(a+b)(a-b) = a^2 - b^2$ .

### שאלות:

#### (1) פשט את הביטויים הבאים:

א. $(x+5)^2$	ב. $(x+2)^2$	ג. $(4x+5)^2$
ד. $(6x+2)^2$	ה. $(7x+y)^2$	ו. $(5x+2y)^2$
ז. $(x^2+7)^2$	ח. $(x^2+y^2)^2$	ט. $(x^3+2y^2x)^2$

#### (2) פשט את הביטויים הבאים:

א. $(x-6)^2$	ב. $(x-2)^2$	ג. $(5-x)^2$
ד. $(6x-1)^2$	ה. $\left(3x-\frac{1}{2}\right)^2$	ו. $\left(\frac{1}{3}x-5\right)^2$
ז. $(3m-2n)^2$	ח. $\left(x^2-\frac{3}{5}y\right)^2$	ט. $(x^2y^2-7)^2$

#### (3) פשט את הביטויים הבאים:

א. $(x-5)(x+5)$	ב. $(3+x)(x-3)$
ג. $(3x-1)(3x+1)$	ד. $(5-7x)(7x+5)$
ה. $\left(\frac{1}{2}x+6\right)\left(\frac{1}{2}x-6\right)$	ו. $\left(5y-\frac{1}{4}x\right)\left(\frac{1}{4}x+5y\right)$
ז. $(x^2+y)(x^2-y)$	ח. $(3a^2b^3-4)(3a^2b^3+4)$

(4) פשט את הביטויים הבאים:

א. $(x+1)(x+2)-3x$	ב. $(x-5)(5x-1)+2(4+x)$
ג. $x(2x-1)(2x+1)-4x^2(x+1)$	ד. $-(y+3x)(y-3x)+(y-3x)^2$
ה. $x(x+3)-(6+x)(6x+2)-(x+2)^2$	
ו. $-5(x+7)(x-7)+3(2x+5)(5-x)+(x+1)^2$	

## תשובות סופיות:

א. $x^2+10x+25$	ב. $x^2+4x+4$	ג. $16x^2+40x+25$	(1)
ד. $36x^2+24x+4$	ה. $49x^2+14xy+y^2$	ו. $25x^2+20xy+4y^2$	
ז. $x^4+14x+49$	ח. $x^4+2x^2y^2+y^4$	ט. $x^6+4x^4y^2+4y^4x^2$	
א. $x^2-12x+36$	ב. $x^2-4x+4$	ג. $25-10x+x^2$	(2)
ד. $36x^2-12x+1$	ה. $9x^2-3x+\frac{1}{4}$	ו. $\frac{1}{9}x^2-3\frac{1}{3}x+25$	
ז. $9m^2-12mn+4n^2$	ח. $x^4-\frac{6}{5}x^2y+\frac{9}{25}y^2$	ט. $x^4y^4-14x^2y^2+49$	
א. $x^2-25$	ב. $x^2-9$	ג. $9x^2-1$	(3)
ה. $\frac{1}{4}x^2-36$	ו. $25y^2-\frac{1}{16}x^2$	ז. $x^4-y^2$	
א. $x^2+2$	ב. $5x^2-24x+13$	ג. $-4x^2-x$	(4)
ד. $18x^2-6xy$	ה. $-6x^2-39x-16$	ו. $-10x^2+17x+321$	

## פירוק לגורמים של ביטויים אלגבריים:

### סיכום כללי:

פירוק לגורמים הוא פעולה הפוכה לפתיחת סוגריים – נרצה להוציא את הגורמים המשותפים לאיברים מחוץ לסוגריים.

- פירוק לגורמים ע"י הוצאת איבר אחד משותף:

○ הוצאת מספר משותף:  $2x - 8 = 2(x - 4)$

○ הוצאת אות משותפת:  $x^2 - 12x = x(x - 12)$

○ הוצאת מספר ואות יחד:  $3x^2 - 21x = 3x(x - 7)$

- פירוק לגורמים ע"י נוסחאות הכפל המקוצר:

○ נוסחת הבינום של ניוטון:  $a^2 \pm 2ab + b^2 = (a \pm b)^2$

○ נוסחה להפרש ריבועים:  $a^2 - b^2 = (a + b)(a - b)$

### שאלות:

- (1) פשט את הביטויים הבאים ע"י הוצאת גורם משותף:

א.  $3x - 12$       ב.  $6y - 4$

ג.  $20 - 8a$       ד.  $4a^3 + 8b$

ה.  $75m^2 + 25m + 15$       ו.  $40a^2 - 8b^2 + 64c^2$

- (2) פשט את הביטויים הבאים ע"י הוצאת גורם משותף:

א.  $y^2 + 5y$       ב.  $3x - 11x^3$

ג.  $6y^2 + 5y^3 + 4y$       ד.  $\frac{1}{2}a^7 - \frac{1}{4}a^5 + a^3$

3 פשט את הביטויים הבאים ע"י הוצאת גורם משותף :

א. $2x^2 - 8x$	ב. $3t^2 + 12t$
ג. $5n^3 - 20n^2 + 50n$	ד. $8y^2 + 6y^3 - 2y^4$
ה. $4x^2y^2 + 16x^2y - 20xy^2$	ו. $27mn - 3n^2m + 9n^3m$

4 פשט את הביטויים הבאים ע"י שימוש בנוסחאות הכפל המקוצר :

א. $x^2 + 10x + 25$	ב. $x^2 + 12x + 36$
ג. $y^2 - 18y + 81$	ד. $y^2 - 22y + 121$
ה. $4x^2 + 4x + 1$	ו. $16y^2 - 8y + 1$
ז. $9x^2 - 24x + 16$	ח. $25x^2 + 70x + 49$

5 פשט את הביטויים הבאים ע"י שימוש בנוסחאות הכפל המקוצר :

א. $r^2 - 25$	ב. $x^2 - 81$
ג. $25y^2 - 49$	ד. $121x^2 - 1$
ה. $x^2y^2 - 4$	ו. $9y^4 - 169x^4$

6 פשט את הביטויים הבאים ע"י הוצאת גורם משותף ונוסחאות הכפל המקוצר :

א. $y - y^3$	ב. $x^3 - 10x^2 + 25x$
ג. $m^4 - 1$	ד. $196x^4 - 140x^3 + 25x^2$

## תשובות סופיות:

- א.  $3(x-4)$       ב.  $2(3y-2)$       ג.  $4(5-2a)$       (1)
- ד.  $4(a^3+2b)$       ה.  $5(15m^2+5m+3)$       ו.  $8(5a^2-b^2+8c^2)$
- א.  $y(y+5)$       ב.  $x(3-11x^2)$       ג.  $y(6y+5y^2+4)$       (2)
- ד.  $a^3\left(\frac{1}{2}a^4-\frac{1}{4}a^2+1\right)$
- א.  $2x(x-4)$       ב.  $3t(t+4)$       ג.  $5n(n^2-4n+10)$       (3)
- ד.  $2y^2(4+3y-y^2)$       ה.  $4xy(xy+4x-5y)$       ו.  $3mn(9-n-3n^2)$
- א.  $(x+5)^2$       ב.  $(x+6)^2$       ג.  $(y-9)^2$       ד.  $(y-11)^2$       (4)
- ה.  $(2x+1)^2$       ו.  $(4y-1)^2$       ז.  $(3x-4)^2$       ח.  $(5x+7)^2$
- א.  $(r+5)(r-5)$       ב.  $(x+9)(x-9)$       ג.  $(5y+7)(5y-7)$       (5)
- ד.  $(11x+1)(11x-1)$       ה.  $(xy+2)(xy-2)$       ו.  $(3y^2+13x^2)(3y^2-13x^2)$
- א.  $y(1+y)(1-y)$       ב.  $x(x-5)^2$       ג.  $(m^2+1)(m+1)(m-1)$       (6)
- ד.  $x^2(14x-5)^2$

## פירוק הטרינום:

### סיכום כללי:

טרינום משמעו תלת איבר מהצורה:  $ax^2 + bx + c$  כאשר  $a, b, c$  הם מספרים כלשהם.

שיטת הטרינום מאפשרת לפרק את תלת האיבר ל-4 איברים ע"י פיצול האיבר  $bx$  לשני איברים באופן כזה שמאפשר להוציא גורם משותף.

הכלל הוא למצוא שני מספרים,  $m_1$  ו- $m_2$ , שמקיימים:  $m_1 \cdot m_2 = ac$  ו- $m_1 + m_2 = b$ .  
לאחר מכן ניתן לפרק את הטרינום:  $ax^2 + bx + c = ax^2 + m_1x + m_2x + c$ .  
השלב האחרון הוא הוצאת גורם משותף מכל זוג:  $ax^2 + \underbrace{m_1x + m_2x} + c$ .

### הערה:

במקרה שנוסחת השורשים ידועה, ניתן להיעזר בה כדי למצוא את המספרים  $m_1$  ו- $m_2$  באופן

הבא:  $m_1 = \frac{-b + \sqrt{b^2 - 4ac}}{2a}$ ,  $m_2 = \frac{-b - \sqrt{b^2 - 4ac}}{2a}$  ולאחר מכן ניתן לכתוב את הטרינום

כמכפלה:  $ax^2 + bx + c = a(x - m_1)(x - m_2)$ . אם קיים פתרון (שורש) אחד  $m_1 = m_2 = \frac{-b}{2a}$  אז

נכתוב:  $ax^2 + bx + c = a(x - m_1)^2$  ואם לא קיימים פתרונות אז לא קיים פירוק כלל.

### שאלות:

(1) פרק את הביטויים הבאים לפי פירוק טרינום:

- |                     |                     |                     |
|---------------------|---------------------|---------------------|
| א. $x^2 + 5x + 4$   | ב. $x^2 - 8x + 15$  | ג. $x^2 - 33x + 62$ |
| ד. $2x^2 + 7x - 15$ | ה. $3x^2 - 11x + 6$ | ו. $6x^2 + 5x + 1$  |
| ז. $2x^2 + x - 6$   | ח. $x^2 - 18x + 81$ | ט. $x^2 + 2x + 8$   |

(2) פרק את הביטויים הבאים ע"י שימוש בנוסחת השורשים.

הערה: במידה ולא למדת על נוסחת השורשים התעלם משאלה זו.

- |                      |                    |
|----------------------|--------------------|
| א. $6x^2 + 5x + 1$   | ב. $x^2 + 5x + 4$  |
| ג. $4x^2 + 20x + 25$ | ד. $3x^2 - x + 20$ |

## תשובות סופיות:

$$(1) \quad \text{א. } (x+1)(x+4) \quad \text{ב. } (x-3)(x-5) \quad \text{ג. } (x-2)(x-31)$$

$$\text{ד. } (2x-3)(x+5) \quad \text{ה. } (3x-2)(x-3) \quad \text{ו. } (3x+1)(2x+1)$$

$$\text{ז. } (x+2)(2x-3) \quad \text{ח. } (x-9)^2 \quad \text{ט. אין פירוק.}$$

$$(2) \quad \text{א. } 6\left(x+\frac{1}{3}\right)\left(x+\frac{1}{2}\right) \quad \text{ב. } (x+1)(x+4) \quad \text{ג. } (2x+5)^2 \quad \text{ד. אין פירוק.}$$

## שברים אלגברים:

### סיכום כללי:

#### הגדרה:

שבר אלגברי מורכב משתי תבניות, אשר אחת מחלקת את השנייה.

$$\text{דוגמא לשברים אלגבריים: } \frac{x+1}{x+2}, \frac{3x}{x^2+1}, \frac{4}{x-x^3}$$

במקרה בו המכנה הוא מספר, לא מדובר בשבר אלגברי מכיוון שניתן לכתוב את

$$\text{הביטוי ללא צורך בחילוק בין ביטויים שונים כגון: } \frac{3x+5}{4} = \frac{3}{4}x + \frac{5}{4}$$

#### תחום הגדרה של שבר:

היות ושבר אלגברי הוא תבנית אשר יכולה לקבל ערכים שונים בעת הצבות שונות, חשוב להגביל את המספרים שניתן להציב באופן כזה שלא תתקבל חלוקה באפס.

$$\text{דוגמא: השבר } \frac{1}{x+4} \text{ לא מוגדר כאשר } x = -4 \text{ מכיוון שמתקבל: } \frac{1}{0}$$

במקרים אלו נדרוש **תנאי** על המשתנה אשר יכתב באופן הבא:  $x \neq -4$  ומשמעו היא ש- $x$  יכול לקבל על ערך מספרי אפשרי למעט -4, מכיוון שבמקרה זה השבר לא מוגדר.

#### כלל צמצום שברים אלגברים:

ניתן לצמצם שברים אלגברים ע"י הבאת המונה והמכנה למכפלה של ביטויים. במידה וקיימות פעולות החיבור והחיסור בין איברים שונים לא ניתן לבצע צמצום של איברים דומים בין המונה והמכנה. להלן מספר דוגמאות הנוגעות לצמצומים:

$$\bullet \text{ צמצום ע"י הוצאת גורם משותף: } \frac{2x+8}{x+4} = \frac{2(x+4)}{x+4} = \frac{2 \cdot 1}{1} = 2$$

$$\bullet \text{ צמצום ע"י נוסחת כפל מקוצר: } \frac{3x-15}{x^2-10x+25} = \frac{3(x-5)}{(x-5)^2} = \frac{3 \cdot 1}{x-5} = \frac{3}{x-5}$$

$$\bullet \text{ צמצום ע"י פירוק טרינום: } \frac{x^2-2x-3}{x^2-3x-4} = \frac{(x+1)(x-3)}{(x+1)(x-4)} = \frac{x-3}{x-4}$$

## שאלות:

(1) מצא את תחום ההגדרה של השברים האלגבריים הבאים:

$\frac{5}{x-6}$ .ב.	$\frac{x+4}{x+3}$ .א.
$\frac{x^2+1}{x^2-4x}$ .ד.	$\frac{x+7}{2x-8}$ .ג.
$\frac{x^2}{x^2-4}$ .ו.	$\frac{3}{x^2+2x+1}$ .ה.
$\frac{8x-2}{3x^3-15x^2+12x}$ .ח.	$\frac{6}{y^4-y^2}$ .ז.

(2) צמצם את השברים הבאים (במידה ולא ניתן צמצם הסבר מדוע):

$\frac{a-x}{a}$ .ב.	$\frac{ax}{a}$ .א.
$\frac{x+1}{y+1}$ .ד.	$\frac{a-ax}{a}$ .ג.
$\frac{6x}{6y}$ .ו.	$\frac{x}{x+y}$ .ה.
$\frac{x^2+y^2}{x^2y^2}$ .ח.	$\frac{x^2y}{xy^2}$ .ז.
$\frac{3x^2}{x^2+3}$ .י.	$\frac{4x^2y}{xy}$ .ט.

(3) צמצם את השברים הבאים ע"י הוצאת גורם משותף וכתוב את תחום הגדרתם:

$\frac{m^2+4m}{4m+16}$ .ב.	$\frac{3x+12}{x+4}$ .א.
$\frac{x^2-5x}{15-3x}$ .ד.	$\frac{2a-12}{a^2-6a}$ .ג.
$\frac{4x^3-2x^2}{6x-3}$ .ו.	$\frac{3-18y^2}{6y^2-1}$ .ה.
$\frac{3z^3-12z^2+4z}{z^2+5z}$ .ח.	$\frac{3y}{y^3-3y^2}$ .ז.

4) צמצם את השברים הבאים ע"י פירוק לגורמים וכתוב את תחום הגדרתם:

$\frac{8n - n^2}{n^2 - 16n + 64} \quad \text{ב.}$	$\frac{x^2 + 10x + 25}{2x + 10} \quad \text{א.}$
$\frac{4m^2 + 20m + 25}{4m^2 + 10m} \quad \text{ד.}$	$\frac{z^3 - 4z^2}{2z^2 - 16z + 32} \quad \text{ג.}$
$\frac{a^3 + 4a^2b + 4ab^2}{3ab + 6b^2} \quad \text{ו.}$	$\frac{18y^2 - 24y + 8}{2y - 3y^2} \quad \text{ה.}$

5) צמצם את השברים הבאים ע"י טרינום ריבועי וכתוב את תחום הגדרתם:

$\frac{m^2 - 12m + 32}{m - 4} \quad \text{ב.}$	$\frac{x + 2}{x^2 - 3x - 10} \quad \text{א.}$
$\frac{3z^2 + 26z + 16}{3z + 2} \quad \text{ד.}$	$\frac{4y - 10}{2y^2 + y - 15} \quad \text{ג.}$
$\frac{9n^2 - 12n}{4 + 5n - 6n^2} \quad \text{ו.}$	$\frac{x^2 + 5x - 36}{x^3 + 9x^2} \quad \text{ה.}$
$\frac{x^2 - 14x + 49}{x^2 + x - 56} \quad \text{ח.}$	$\frac{x^2 + 4x + 4}{x^2 + 5x + 6} \quad \text{ז.}$
$\frac{m^3n - m^2n^2 - m^2 + mn}{2m^2n^3 + mn^2 - 3n} \quad \text{י.}$	$\frac{3a^2b - 10ab^2 + 3b^3}{-3a^3b + 11a^2b^2 - 6ab^3} \quad \text{ט.}$

## תשובות סופיות:

$$(1) \quad \text{א. } x \neq -3 \quad \text{ב. } x \neq 6 \quad \text{ג. } x \neq 4 \quad \text{ד. } x \neq 0, x \neq 4$$

$$\text{ה. } x \neq -1 \quad \text{ו. } x \neq -2, x \neq 2 \quad \text{ז. } y \neq 0, y \neq -1, y \neq 1$$

$$\text{ח. } x \neq 0, x \neq 1, x \neq 4$$

$$(2) \quad \text{א. } x \quad \text{ב. לא ניתן לצמצם} \quad \text{ג. } 1-x$$

$$\text{ד. לא ניתן לצמצם} \quad \text{ה. לא ניתן לצמצם} \quad \text{ו. } \frac{x}{y} \quad \text{ז. } \frac{x}{y}$$

$$\text{ח. לא ניתן לצמצם} \quad \text{ט. } 4x \quad \text{י. לא ניתן לצמצם}$$

$$(3) \quad \text{א. } x \neq -4, 3 \quad \text{ב. } \frac{m}{4}, m \neq -4 \quad \text{ג. } \frac{2}{a}, a \neq 0, 6$$

$$\text{ד. } -\frac{x}{3}, x \neq 5 \quad \text{ה. } -3, y \neq \pm \frac{1}{\sqrt{6}} \quad \text{ו. } \frac{2x^2}{3}, x \neq \frac{1}{2}$$

$$\text{ז. } \frac{3}{y(y-3)}, y \neq 0, 3 \quad \text{ח. } \frac{3z^2 - 12z + 4}{z+5}, z \neq 0, -5$$

$$(4) \quad \text{א. } \frac{x+5}{2}, x \neq -5 \quad \text{ב. } \frac{n}{8-n}, n \neq 8 \quad \text{ג. } \frac{z^2}{2(z-4)}, z \neq 4$$

$$\text{ד. } \frac{2m+5}{2m}, m \neq 0, -\frac{5}{2} \quad \text{ה. } \frac{2(2-3y)}{y}, y \neq 0, \frac{2}{3} \quad \text{ו. } \frac{a(a+2b)}{3b}, b \neq 0, a \neq -2b$$

$$(5) \quad \text{א. } \frac{1}{x-5}, x \neq 5, -2 \quad \text{ב. } m-8, m \neq 4 \quad \text{ג. } \frac{2}{y+3}, x \neq -3, \frac{5}{2}$$

$$\text{ד. } z+8, z \neq -\frac{2}{3} \quad \text{ה. } \frac{x-4}{x^2}, x \neq 0, -9 \quad \text{ו. } \frac{-3n}{2n+1}, n \neq -\frac{1}{2}, \frac{4}{3}$$

$$\text{ז. } \frac{x+2}{x+3}, x \neq -2, -3 \quad \text{ח. } \frac{x-7}{x+8}, x \neq 7, -8$$

$$\text{ט. } \frac{3a-b}{a(2b-3a)}, a \neq 0, b \neq 0, a \neq 3b, 2b \neq 3a \quad \text{י. } \frac{m(m-n)}{n(2mn+3)}, mn \neq 1, -\frac{3}{2}, n \neq 0$$

## כפל וחילוק של שברים אלגבריים:

### סיכום כללי:

כפל שברים יתבצע ע"י הכפלת כל מונה בנפרד והכפלת כל מכנה בנפרד.  
חילוק שברים יתבצע ע"י לקיחת ההופכי של שבר המחלק וביצוע פעולת כפל.

$$\bullet \text{ דוגמא לכפל שברים: } \frac{x+1}{x^2} \cdot \frac{x}{3x+3} = \frac{x+1}{x^2} \cdot \frac{x}{3(x+1)} = \frac{\cancel{x}(x+1)}{3x^{\cancel{2}}(x+1)} = \frac{1}{3x}$$

$$\bullet \text{ דוגמא לחילוק שברים: } \frac{4x}{y} : \frac{12}{y^2+y} = \frac{4x}{y} \cdot \frac{y^2+y}{12} = \frac{\cancel{4}x}{\cancel{12}} \cdot \frac{\cancel{y}(y+1)}{\cancel{12}_3} = \frac{x(y+1)}{3}$$

### שאלות:

(1) פשט את הביטויים הבאים:

$$\text{א. } \frac{x}{3} \cdot \frac{x}{8} \quad \text{ב. } \frac{x}{3} \cdot \frac{9}{x^2}$$

$$\text{ג. } 7y \cdot \frac{5}{y^2} \quad \text{ד. } 6x^2 \cdot \frac{3}{40x}$$

$$\text{ה. } (x^2+3x) \cdot \frac{2}{3x+9} \quad \text{ו. } (a^2-25) \cdot \frac{20}{5a+25}$$

$$\text{ז. } \frac{w^2-9}{w} \cdot \frac{w^2}{2w+6} \quad \text{ח. } \frac{y+4}{y^2+16} \cdot \frac{y^2-16}{2y+8}$$

$$\text{ט. } \frac{z^2+30z+225}{6z+90} \cdot \frac{12}{2z-10} \quad \text{י. } \frac{5n^2}{n^2-121} \cdot \frac{2n^2+44n+242}{n+2} \cdot \frac{n^2+4n+4}{n}$$

(2) פשט את הביטויים הבאים:

א. $\frac{x}{8} : \frac{x}{6}$	ב. $\frac{y}{25} : \frac{5}{y}$
ג. $a^2 : \frac{1}{6a}$	ד. $\frac{5}{6a} : a^2$
ה. $(d^2 - 3d) : \frac{5d - 15}{5d}$	ו. $\frac{t}{t+4} : \frac{3t}{t+4}$
ז. $\frac{y^2 + 8y + 16}{8y^2} : \frac{y^2 - 16}{7y^2}$	ח. $\frac{a^2 - 64}{a^2 - 36} : \frac{a+8}{a+6}$

תשובות סופיות:

א. $\frac{x^2}{24}$	ב. $\frac{3}{x}$	ג. $\frac{35}{y}$	ד. $\frac{9x}{20}$	ה. $\frac{2x}{3}$	(1)
ו. $4(a-5)$	ז. $\frac{w(w-3)}{2}$	ח. $\frac{y^2 - 16}{2y^2 + 32}$	ט. $\frac{z+15}{z-5}$	י. $\frac{10n(n+11)(n+2)}{n-11}$	
א. $\frac{3}{4}$	ב. $\frac{y^2}{125}$	ג. $6a^3$	ד. $\frac{5}{6a^3}$	ה. $d^2$	ו. $\frac{1}{3}$
ז. $\frac{7(y+4)}{8(y-4)}$	ח. $\frac{a-8}{a-6}$				

## חיבור וחיסור של שברים אלגבריים:

### סיכום כללי:

ביצוע פעולת החיבור והחיסור תתבצע באופן זהה לשברים מספריים. נרצה להרחיב את השברים כך שהמכנה של שניהם יהיה זהה, ולאחר מכן נחבר את המונים. כדי להרחיב את השברים נעזר בפעולת מציאת מכנה משותף. לשם כך נעזר בפירוקים השונים כדי להביא את הביטויים שבכל מכנה לצורתם המופשטת. דוגמא לחיבור שברים בעלי אותו מכנה:

$$\frac{1}{x} + \frac{x+1}{x} = \frac{1+(x+1)}{x} = \frac{x+2}{x}$$

דוגמא לחיבור מספר לשבר אלגברי:

$$2 + \frac{3}{x+2} = \frac{2(x+2)}{x+2} + \frac{3}{x+2} = \frac{2(x+2)+3}{x+2} = \frac{2x+7}{x+2}$$

דוגמא לחיבור שברים עם מכנים שונים (ע"י פעולת מכנה משותף):

$$\frac{1}{x+1} + \frac{1}{x} = \frac{x}{x(x+1)} + \frac{x+1}{x(x+1)} = \frac{x+x+1}{x(x+1)} = \frac{2x+1}{x(x+1)}$$

דוגמא לחיבור שברים ע"י שימוש בפירוק לגורמים (כדי למצוא מכנה משותף מינימלי):

$$\frac{1}{x^2-3x} + \frac{3}{x-3} = \frac{1}{x^2-3x} + \frac{3x}{x^2-3x} = \frac{1+3x}{x^2-3x}$$

דוגמא לחיבור שברים ע"י נוסחאות הכפל המקוצר (כדי למצוא מכנה משותף מינימלי):

$$\frac{3}{x^2-6x+9} - \frac{2}{x^2-9} = \frac{3}{(x-3)^2} - \frac{2}{(x-3)(x+3)} = \frac{3(x+3)-2(x-3)}{(x-3)^2(x+3)} = \frac{x+15}{(x-3)^2(x+3)}$$

## שאלות:

(1) פשט את הביטויים הבאים:

א.  $\frac{a}{6} + \frac{a-5}{6}$

ג.  $\frac{x-2}{x+1} + \frac{3+4x}{x+1}$

ב.  $\frac{5}{x} + \frac{4x+3}{x}$

ד.  $\frac{7z}{2z-3} - \frac{4z}{2z-3} - \frac{z+3}{2z-3}$

(2) פשט את הביטויים הבאים:

א.  $\frac{1}{ab} - \frac{5}{bc}$

ג.  $\frac{c}{ab} - \frac{ad}{bc} + \frac{2b}{cd}$

ב.  $\frac{1}{xy} + \frac{5}{yz} + \frac{4}{xz}$

ד.  $-\frac{5}{x} + \frac{x+1}{xy^2}$

ה.  $\frac{1}{(y+1)^2} + \frac{3}{y+1}$

ו.  $\frac{3}{z(z-3)} - \frac{2}{z(z-2)}$

(3) פשט את הביטויים הבאים:

א.  $1 - \frac{2}{x}$

ג.  $2 + \frac{2}{x+1}$

ב.  $1 + \frac{3}{y^2}$

ד.  $3 - \frac{1}{x} + \frac{1}{3x}$

ה.  $\frac{a+1}{a^2} - \frac{3-a}{4a} - 3$

ו.  $\frac{x}{9yz} + \frac{z}{3y^2x} + \frac{3-y}{12xz} - 3\frac{1}{2}$

(4) פשט את הביטויים הבאים:

א.  $\frac{3}{x+1} + \frac{1}{x}$

ג.  $\frac{a+1}{a+2} + \frac{3}{a}$

ב.  $\frac{4}{y+2} - \frac{3}{y}$

ד.  $\frac{1}{z+3} + \frac{2}{3z} - \frac{3}{z}$

5 פשט את הביטויים הבאים:

א.  $\frac{24}{a^2-9} + \frac{4}{a+3}$

ב.  $\frac{3}{x^2-16} + \frac{2}{(x+4)^2}$

ג.  $\frac{y}{(y-2)^2} + \frac{3y}{4-y^2}$

ד.  $\frac{3z}{z^2+4z+3} - \frac{z+0.5}{z^2+2z+1}$

ה.  $\frac{x-1}{x^2+3x-40} + \frac{2}{-x^2+8x-15}$

ו.  $\frac{2a+3}{2a^2+15a+7} + \frac{a+3}{a^2+14a+49}$

ז.  $\frac{x}{x-3} + \frac{9-x}{x^2-8x+15}$

ח.  $\frac{1}{a-b} + \frac{2}{a+2b} - \frac{3b}{a^2+ab-2b^2}$

6 פשט את הביטויים הבאים:

א.  $\frac{4}{x} \cdot \frac{x^2}{8} + \frac{9}{x+1} \cdot \frac{x+1}{18}$

ב.  $\left(\frac{2}{x} + 1\right) \cdot \frac{x^2}{7x+14}$

ג.  $\frac{7}{y^2} : \frac{6}{y^3} - \frac{y-4}{63} \cdot \frac{3y-4}{y^2-8y+16}$

ד.  $\left(3x - \frac{2}{x^2} + \frac{1}{x}\right) : \frac{6x^3+2x-4}{x^2}$

ה.  $\left(\frac{2x+1}{20x^2-28x-3} - \frac{3x+1}{30x^2-17x-2}\right) : \frac{18x+3}{6x^2-13x+6}$

## תשובות סופיות:

$$(1) \quad \begin{array}{lll} \text{א.} & \frac{2a-5}{6} & \text{ב.} & \frac{4x+8}{x} & \text{ג.} & \frac{5x+1}{x+1} & \text{ד.} & 1 \end{array}$$

$$(2) \quad \begin{array}{lll} \text{א.} & \frac{c-5a}{abc} & \text{ב.} & \frac{z+5x+4y}{xyz} & \text{ג.} & \frac{c^2d - a^2d^2 + 2ab^2}{abcd} \end{array}$$

$$\begin{array}{lll} \text{ד.} & \frac{-5y^2 + x + 1}{xy^2} & \text{ה.} & \frac{3y+4}{(y+1)^2} & \text{ו.} & \frac{1}{(z-2)(z-3)} \end{array}$$

$$(3) \quad \begin{array}{lll} \text{א.} & \frac{x-2}{x} & \text{ב.} & \frac{y^2+3}{y^2} & \text{ג.} & \frac{2x+4}{x+1} \end{array}$$

$$\begin{array}{lll} \text{ד.} & \frac{9x-2}{3x} & \text{ה.} & \frac{-11a^2 + a + 4}{4a^2} & \text{ו.} & \frac{4x^2y + 12z^2 + 9y^2 - 3y^3 - 126xy^2z}{36xy^2z} \end{array}$$

$$(4) \quad \begin{array}{lll} \text{א.} & \frac{4x+1}{x(x+1)} & \text{ב.} & \frac{y-6}{y(y+2)} & \text{ג.} & \frac{a^2 + 4a + 6}{a(a+2)} \end{array}$$

$$\text{ד.} \quad \frac{4z+21}{3z(z+3)}$$

$$(5) \quad \begin{array}{lll} \text{א.} & \frac{4}{a-3} & \text{ב.} & \frac{5x+4}{(x-4)(x+4)^2} & \text{ג.} & \frac{2y(4-y)}{(y-2)^2(y+2)} \end{array}$$

$$\begin{array}{lll} \text{ד.} & \frac{(4z+3)(z-1)}{2(z+1)^2(z+3)} & \text{ה.} & \frac{x^2 - 6x - 13}{(x+8)(x-5)(x-3)} & \text{ו.} & \frac{4(a^2 + 6a + 6)}{(a+7)^2(2a+1)} \end{array}$$

$$\begin{array}{ll} \text{ז.} & \frac{x-3}{x-5} \\ \text{ח.} & \frac{3}{a+2b} \end{array}$$

$$(6) \quad \begin{array}{lll} \text{א.} & \frac{x+1}{2} & \text{ב.} & \frac{x}{7} & \text{ג.} & \frac{147y^2 - 594y + 8}{126(y-4)} & \text{ד.} & \frac{1}{2} & \text{ה.} & \frac{1}{3(10x+1)} \end{array}$$

## שברים כפולים:

### סיכום כללי:

שבר כפול מורכב באופן הבא:  $\frac{\frac{a}{b}}{\frac{c}{d}}$  כאשר מתקיים:  $\frac{\frac{a}{b}}{\frac{c}{d}} = \frac{a}{b} \cdot \frac{d}{c} = \frac{ad}{bc}$

נובע מכאן כי ניתן לצמצם ביטויים בין שני המכנים או שני המונים בלבד.

### שאלות:

פשט את הביטויים הבאים:

$\frac{y+1}{2y+2} \quad (2)$	$\frac{4x}{12} \quad (1)$
$\frac{5}{t^2-81}$	$\frac{x}{5}$
$\frac{9t^2}{6t+54} \quad (4)$	$\frac{t}{30t^2} \quad (3)$
$\frac{4x}{x+1} \quad (6)$	$\frac{3y^3-y^2}{25} \quad (5)$
$\frac{x^2+2x+1}{t^2-t-20}$	$\frac{y^2}{3-y}$
$\frac{16t+8}{25-t^2} \quad (8)$	$\frac{8c^2}{3c^3-9c^2-12c} \quad (7)$
$\frac{2t+1}{x^2+2x+1}$	$\frac{15c+15}{1-4+\frac{x}{x+1}} \quad (9)$
	$\frac{1-3x(x+1)}{5x+5}$

## תשובות סופיות:

$$\frac{x^2}{3} \quad (1)$$

$$2.5 \quad (2)$$

$$\frac{1}{6t^3} \quad (3)$$

$$\frac{t-9}{54t^2} \quad (4)$$

$$\frac{(3y-1)(3-y)}{25} \quad (5)$$

$$\frac{x(x+1)}{2} \quad (6)$$

$$\frac{c}{c-4} \quad (7)$$

$$\frac{t+4}{-8(t+5)} \quad (8)$$

$$\frac{5}{x} \quad (9)$$

# מכינה למבחן פטור (חדוא 0)

## פרק 2 - משוואות אלגבריות

### תוכן העניינים

47	1. משוואות ממעלה ראשונה
49	2. מערכת שתי משוואות בשני נעלמים ממעלה ראשונה
52	3. משוואות עם אינסוף פתרונות וללא פתרון
53	4. משוואה ממעלה שנייה
55	5. משוואות דו-ריבועיות
57	6. משוואות עם פרמטרים
59	7. משוואות עם שורשים
61	8. משוואות עם ערך מוחלט
62	9. מערכת משוואות ממעלה שנייה
64	10. משוואות מתקדמות מסכמות
67	11. פישוט ביטויים ומשוואות ממעלה שלישית

## משוואה ממעלה ראשונה:

### סיכום כללי:

משוואה ממעלה ראשונה היא מהצורה:  $ax = b$  (כלומר, החזקה של הנעלם היא 1).

פתרון של משוואה ממעלה ראשונה הוא  $x = \frac{b}{a}$  כאשר  $a \neq 0$ .

שלבי הפתרון הם:

1. ביצוע מכנה משותף (במידה וצריך).
2. פתיחת סוגריים אם ישנם.
3. העברת אגפים וכינוס אברים דומים (בידוד הנעלם באגף אחד והמספרים באגף שני).
4. בידוד הנעלם ומציאתו ע"י חילוק במקדם שלו.

### שאלות:

(1) פתור את המשוואות הבאות (משוואות יסודיות ממעלה ראשונה):

- |                             |                                       |
|-----------------------------|---------------------------------------|
| א. $6x + 2 = 8$             | ב. $7 - 2x = 7$                       |
| ג. $2x + x = 24$            | ד. $2x + 6 = 8 + x$                   |
| ה. $-7x + 5 + 2x = 4x - 13$ | ו. $6x - 3 + 5 - 7x = x - 5x - 7$     |
| ז. $2 - 5x + 7 = -3x + 8$   | ח. $x - 2 + 5x = 4 - 3x - 5 + 7x + 7$ |

(2) פתור את המשוואות הבאות (משוואות עם פתיחת סוגריים):

- |                              |                                     |
|------------------------------|-------------------------------------|
| א. $3(x - 1) - 4 = 2$        | ב. $7x - 4(3 - 4x) = -x$            |
| ג. $6(4 - x) - (6 - x) = 3x$ | ד. $5x - (3x - 7)4 = 21$            |
| ה. $x(x - 5) = x^2 - 7x + 8$ | ו. $(7 - x)(1 - x) - (x - 3)^2 = 0$ |

3) פתור את המשוואות הבאות (משוואות עם מכנה מספרי):

$$\begin{array}{ll}
 \text{א. } \frac{x}{3} - \frac{x}{9} = -4 & \text{ב. } \frac{4x}{15} - \frac{3x}{10} = 1 \\
 \text{ג. } \frac{2}{3}x + \frac{4}{5}x = x - \frac{7}{15} & \text{ד. } \frac{5x+1}{6} - \frac{6x-1}{5} = \frac{3x+1}{4} - 1 \\
 \text{ה. } \frac{2}{5}(x-3) - \frac{3}{15}(4-x) = x+2 & \text{ו. } 5\left(\frac{x}{3} - \frac{x}{7}\right) - x = 1
 \end{array}$$

4) פתור את המשוואות הבאות (משוואות עם נעלם במכנה):

$$\begin{array}{ll}
 \text{א. } \frac{1}{4} - \frac{2}{x} = 0 & \text{ב. } \frac{1}{2} - \frac{x}{x-1} = 0 \\
 \text{ג. } \frac{3}{x} = \frac{1}{x+2} & \text{ד. } \frac{5}{2x-1} = \frac{4}{3x+2} \\
 \text{ה. } \frac{x+5}{3x^2} - \frac{1}{6x} = \frac{1}{x} & \text{ו. } \frac{1}{4x} + \frac{3}{x} = \frac{13}{2}
 \end{array}$$

5) פתור את המשוואות הבאות (משוואות עם מכנה משותף ע"י פירוק לגורמים):

$$\begin{array}{ll}
 \text{א. } \frac{x^2+2}{3x^2+5x} = \frac{3x-1}{9x+15} & \text{ב. } \frac{7}{x^2-1} + \frac{2}{x+1} + \frac{3}{2-2x} = 0 \\
 \text{ג. } \frac{3}{(2-x)^2} + \frac{5}{12-3x^2} = 0 & \text{ד. } \frac{4x^2-24x+36}{x-3} = 12
 \end{array}$$

### תשובות סופיות:

- 1) א.  $x=1$     ב.  $x=0$     ג.  $x=8$     ד.  $x=2$     ה.  $x=2$     ו.  $x=-3$
- א.  $x=\frac{1}{2}$     ב.  $x=4$
- 2) א.  $x=3$     ב.  $x=\frac{1}{2}$     ג.  $x=2\frac{1}{4}$     ד.  $x=1$     ה.  $x=4$     ו.  $x=-1$
- 3) א.  $x=-18$     ב.  $x=-30$     ג.  $x=-1$     ד.  $x=1$     ה.  $x=-10$     ו.  $x=-21$
- 4) א.  $x=8$     ב.  $x=-1$     ג.  $x=-3$     ד.  $x=-2$     ה.  $x=2$     ו.  $x=\frac{1}{2}$
- 5) א.  $x=-6$     ב.  $x=-7$     ג.  $x=-7$     ד.  $x=6, x \neq 3$

## מערכת שתי משוואות בשני נעלמים ממעלה ראשונה:

סיכום כללי:

הגדרה:

מערכת שתי משוואות בשני נעלמים ממעלה ראשונה (ליניאריות) היא מהצורה הבאה:

$$\begin{cases} a_1x + b_1y = c_1 \\ a_2x + b_2y = c_2 \end{cases}$$

כאשר  $a_1, b_1, c_1$  ו- $a_2, b_2, c_2$  הם מקדמים מספריים.

$$\cdot \begin{cases} y = 3x - 1 \\ \frac{x + 3}{2} = y + 6 \end{cases}, \begin{cases} x + y = 3 \\ 2x - y = 1 \end{cases} : \text{דוגמאות למערכות של משוואות}$$

פתרון של מערכת משוואות:

פתרון של מערכת המשוואות הוא זוג סדור המקיים את כל המשוואות שבמערכת.

הצגה גרפית של מערכת משוואות:

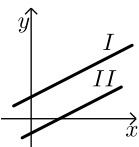
פתרון גרפי של מערכת משוואות הוא נקודת החיתוך של הישרים המייצגים כל משוואה.

יתכנו שלושה מצבים הדדיים בין שני ישרים:



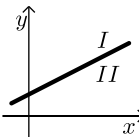
- הישרים נחתכים:

במקרה זה נקודת החיתוך תהיה פתרון המערכת.



- הישרים מקבילים:

במקרה זה לא יהיה פתרון למערכת.



- הישרים מתלכדים:

במקרה זה יהיו אינסוף פתרונות למערכת המשוואות.

### פתרון אלגברי של מערכת משוואות:

- פתרון ע"י שיטת ההצבה :  
נבודד את אחד הנעלמים ממשוואה אחת ונציב אותו במשוואה השנייה.  
נבחר בשיטה זו במקרים בהם קל לבודד נעלם באחת המשוואות.
  - פתרון ע"י השוואת מקדמים :
1. כופלים (או מחלקים) משוואה אחת (או שתיהן) במספר השונה מאפס כך שתתקבלנה משוואות שקולות בעלות מקדמים נגדיים או זהים עבור אחד המשתנים.
  2. מחברים (או מחסרים) את המשוואות ומקבלים משוואה חדשה עם נעלם אחד.
  3. מוצאים את ערך הנעלם מהמשוואה החדשה ומציבים אותו באחת המשוואות המקוריות למציאת ערך הנעלם השני.

### הערה:

נוח להשתמש בשיטת השוואת המקדמים ע"י כך שמעבירים את המערכת הנתונה למערכת שקולה שבה המשתנים באגף אחד והמספר החופשי באגף השני.

### שאלות:

#### 1) פתור את המשוואות הבאות :

$$\begin{array}{lll} \left\{ \begin{array}{l} -3x + 2y = -16 \\ x = 5y + 14 \end{array} \right. \text{ג.} & \left\{ \begin{array}{l} y = x - 3 \\ y = 2x + 4 \end{array} \right. \text{ב.} & \left\{ \begin{array}{l} 3x + y = 11 \\ y = 5 \end{array} \right. \text{א.} \\ \left\{ \begin{array}{l} 2x + 3y = 5 \\ 5x + 7y = 11 \end{array} \right. \text{ו.} & \left\{ \begin{array}{l} -5x + 7y = -26 \\ x + 3y = -8 \end{array} \right. \text{ה.} & \left\{ \begin{array}{l} 5x - 2y = -2 \\ x + 4y = 4 \end{array} \right. \text{ד.} \end{array}$$

#### 2) פתור את המשוואות הבאות :

$$\begin{array}{ll} \left\{ \begin{array}{l} 5x + 2y = 14 \\ 5x + 3y = 23 \end{array} \right. \text{ב.} & \left\{ \begin{array}{l} x + 3y = 5 \\ x - 3y = 3 \end{array} \right. \text{א.} \\ \left\{ \begin{array}{l} 4x = 3y - 29 \\ 5y = 9 - 13x \end{array} \right. \text{ד.} & \left\{ \begin{array}{l} 5y = 2x \\ 4x = 5y + 8 \end{array} \right. \text{ג.} \end{array}$$

#### 3) פתור את המשוואות הבאות :

$$\left\{ \begin{array}{l} 2(x - y) + 4y = 1 + x \\ 2 - 7y + x = 3(x - y) \end{array} \right. \text{ב.} \quad \left\{ \begin{array}{l} x + 2y = 1 \\ 4x + 8y = 5 \end{array} \right. \text{א.}$$

4 פתור את המשוואות הבאות :

$$\begin{cases} \frac{x-3}{8} - \frac{x+y}{16} = \frac{y-1}{4} & \text{ב.} \\ 3(2x-y) - 4x - 11 = 0 \end{cases}$$

$$\begin{cases} 3y - x + 2 = 4x + 2 - 3y & \text{א.} \\ 2x - 3 - y = 5y - 4x + 3 \end{cases}$$

$$\begin{cases} \frac{3x-1}{4} - \frac{2}{5}(x-y) = \frac{3}{10}(x+3) & \text{ג.} \\ \frac{x+1}{4} - \frac{y}{2} = 1 \end{cases}$$

5 פתור את המשוואות הבאות :

$$\begin{cases} 4x - \frac{7}{y} = -3 & \text{ג.} \\ 5x + \frac{2}{y} = 7 \end{cases}$$

$$\begin{cases} \frac{3}{x} + \frac{3}{y} = 2 & \text{ב.} \\ \frac{9}{x} - \frac{4}{y} = -7 \end{cases}$$

$$\begin{cases} \frac{3}{x} + \frac{1}{y} = 4 & \text{א.} \\ \frac{5}{x} - \frac{1}{y} = 4 \end{cases}$$

6 פתור את המשוואות הבאות :

$$\begin{cases} xy = 20 & \text{ב.} \\ y(3x-4) = 20 \end{cases}$$

$$\begin{cases} x(y+2) + y = xy - 5 & \text{א.} \\ x - y = 2 \end{cases}$$

$$\begin{cases} 5x - 4xy = 22 & \text{ג.} \\ 6x + xy = -20 \end{cases}$$

### תשובות סופיות :

1 א. (2,5) ב. (-7,-10) ג. (4,-2) ד. (0,1) ה. (1,-3) ו. (-2,3)

2 א.  $(4, \frac{1}{3})$  ב.  $(-\frac{4}{5}, 9)$  ג. (4,1.6) ד. (-2,7)

3 א. אין פתרון. ב. אינסוף פתרונות.

4 א. (6,5) ב. (7,1) ג. (7,2)

5 א. (1,1) ב. (-3,1) ג. (1,1)

6 א. (-1,-3) ב. (2,10) ג. (-2,4)

## משוואות עם אינסוף פתרונות וללא פתרון:

### סיכום כללי:

#### משוואה ממעלה ראשונה:

למשוואה ממעלה ראשונה מהצורה:  $ax = b$  יתכן פתרון יחיד אם ורק אם  $a \neq 0$  מכיוון שניתן לחלק ולכתוב:  $x = \frac{b}{a}$ .

כאשר  $a = 0$  מתקבלת המשוואה  $0 \cdot x = b$  ויתכנו שני מצבים:

1. אם  $b = 0$  את המשוואה היא  $0x = 0$  ויש אינסוף פתרונות המקיימים אותה.
2. אם  $b \neq 0$  את המשוואה היא  $0x = b \neq 0$  ואין אף ערך של  $x$  המקיים אותה.

### שאלות:

פתור את המשוואות הבאות:

$$x + 4 = 6 + x \quad (1) \qquad 3x + 6 - x = 4 + 2x + 2 \quad (2)$$

$$6(x - 2) = 2x + 5 + 4x \quad (3) \qquad 5x - 3 + x = 4x + 2x - 3 \quad (4)$$

$$(5) \quad \text{נתונה המשוואה: } 3 - 2(x + 2) = 5x + \square$$

- א. איזה מספר יש להציב ב- $\square$  על מנת שפתרון המשוואה יהיה 1?
- ב. איזה מספר יש להציב ב- $\square$  על מנת שפתרון המשוואה יהיה 0?
- ג. מצא ביטוי אלגברי שיש להציב ב- $\square$  על מנת שלמשוואה יהיו אינסוף פתרונות.
- ד. מצא ביטוי אלגברי שיש להציב ב- $\square$  על מנת שלמשוואה לא יהיה פתרון.

### תשובות סופיות:

- (1) אף פתרון.
- (2) אינסוף פתרונות.
- (3) אין פתרון.
- (4) אינסוף פתרונות.
- (5) א. -8      ב. -1      ג.  $-7x - 1$   
ד.  $-7x + k$  כאשר  $k$  הוא מספר כלשהו השונה מ-1.

## משוואה ממעלה שנייה:

### סיכום כללי:

משוואה מהצורה:  $ax^2 + bx + c = 0$  ( $a \neq 0$ ), נקראת משוואה ריבועית. פתרונות המשוואה יסומנו ב-  $x_1$  ו-  $x_2$  ויחושבו לפי נוסחת השורשים:

$$x_{1,2} = \frac{-b \pm \sqrt{b^2 - 4ac}}{2a}$$

למשוואה ריבועית יתכנו שלושה סוגים של פתרונות:

- משוואה עם שני פתרונות ממשיים שונים.**  
 אם מתקבל מספר חיובי בתוך השורש שבנוסחת השורשים אזי למשוואה יהיו שני פתרונות ממשיים שונים.  
 דוגמא:  $x^2 + 5x - 4 = 0$ .
- משוואה עם פתרון ממשי אחד בלבד.**  
 אם מתקבל אפס בתוך השורש שבנוסחת השורשים אזי למשוואה יהיה פתרון ממשי אחד בלבד.  
 דוגמא:  $x^2 + 4x + 4 = 0$ .
- משוואה ללא פתרונות ממשיים כלל.**  
 אם מתקבל מספר שלילי בתוך השורש שבנוסחת השורשים אזי למשוואה לא יהיו פתרונות ממשיים כלל.  
 דוגמא:  $x^2 + x + 4 = 0$ .

### שאלות:

(1) פתור את המשוואות הבאות:

ב.  $-x^2 + 10x - 16 = 0$

ד.  $2x^2 - 6x + 5 = 0$

א.  $x^2 + 3x - 10 = 0$

ג.  $25x^2 - 20x + 4 = 0$

(2) פתור את המשוואות הבאות:

ב.  $-x(x-5) = (1-3x)(1-x) + 4$

ד.  $(2x-1)^2 + x(2x+3) = (x-1)(x-7)$

א.  $4x^2 - 5x + 7 = 4 - x^2 + 13$

ג.  $2(x-5)^2 - (2x-3)^2 = 10x + 21$

(3) פתור את המשוואות הבאות (משוואה חסרת  $b$ ):

$$\begin{array}{ll} \text{א. } x^2 - 36 = 0 & \text{ב. } 32x^2 - 18 = 0 \\ \text{ג. } 4x - x(x+2) = 3(x-1) - x - 6 & \text{ד. } (2x-1)^2 + (2x+1)^2 = 10 \end{array}$$

(4) פתור את המשוואות הבאות (משוואה חסרת  $c$ ):

$$\begin{array}{ll} \text{א. } -7x^2 - 14x = 0 & \text{ב. } 5x^2 - x = 0 \\ \text{ג. } 6x(x-2) - 1 = 4x - 3(x+1) + 2 & \text{ד. } (5x-2)^2 = (x-2)(x+3) + 10 \end{array}$$

(5) פתור את המשוואות הבאות:

$$\begin{array}{ll} \text{א. } \frac{4x+1}{3} - \frac{x+2}{2} = \frac{2}{x} & \text{ב. } \frac{x^2-9}{x+3} + x = x^2 - 18 \\ \text{ג. } \frac{3}{2x+2} - \frac{2x-5}{2(x-1)^2} - \frac{4}{1-x^2} = 0 & \text{ד. } \frac{x}{2x^2-72} + \frac{2}{x^2+12x+36} = \frac{8x-15}{24-4x} + 2 \end{array}$$

### תשובות סופיות:

$$\begin{array}{ll} \text{(1) א. } x_1 = 2, x_2 = -5 & \text{ב. } x_1 = 2, x_2 = 8 \\ \text{(2) א. } x_1 = 2, x_2 = -1 & \text{ב. } x_1 = 1, x_2 = 1\frac{1}{4} \\ & \text{ד. } x_1 = 0.6, x_2 = -2 \\ \text{(3) א. } x = \pm 6 & \text{ב. } x = \pm \frac{3}{4} \\ \text{(4) א. } x_1 = 0, x_2 = -2 & \text{ב. } x_1 = 0, x_2 = \frac{1}{5} \\ & \text{ד. } x_1 = 0, x_2 = \frac{7}{8} \\ \text{(5) א. } x_1 = 2, x_2 = -1.2 & \text{ב. } x = 5, x \neq -3 \\ & \text{ד. } x_1 = -7.6, x_2 = -4\frac{2}{7} \end{array}$$

ג.  $x = \frac{2}{5}$  ד. אין פתרון.

ג.  $x_1 = 1, x_2 = -10$

ג.  $x = \pm 3$  ד.  $x = \pm 1$

ג.  $x_1 = 0, x_2 = 2\frac{1}{6}$

ג.  $x_1 = 0, x_2 = -5$

## משוואות דו-ריבועיות:

### סיכום כללי:

משוואה דו-ריבועית היא משוואה מהצורה:  $ax^4 + bx^2 + c = 0$  כאשר הנעלם הוא  $x$ .  
 פתרון המשוואה יבוצע ע"י מעבר לפרמטר:  $x^2 = t \rightarrow at^2 + bt + c = 0$  ומציאתו.  
 לאחר מכן יש להחזיר את ההצבה ולמצוא את ערכי  $x$ .

ניתן להביא משוואות לצורה זו ולהגדיר ביטוי המופיע בחזקות 2 ו-4 כגון:  
 $t = x^2 - 1$  : באמצעות פרמטר:  $(x^2 - 1)^2 + 3(x^2 - 1) - 2 = 0$   
 ובכך לפתור משוואה:  $t^2 + 3t - 2 = 0$  ולהחזיר את ההצבה עבור מציאת  $x$ .  
 דרך הפתרון תקפה לכל משוואה בה הנעלם מופיע בחזקות כפולות כגון 3 ו-6, או 4 ו-8.

### שאלות:

פתור את המשוואות הבאות:

- |  |   |
|--|---|
| $x^4 - 3x^2 + 2 = 0$ (2)   | $5x^4 + 3x^2 - 8 = 0$ (1)   |
| $x^2(x^2 + 1) = 10(3x^2 - 10)$ (4)   | $13x^2(3x^2 - 1) - 2 = 3(x^2 - 1)(x^2 + 1)$ (3)                               |
| $x^3 + 4 = \frac{32}{x^3}$ (6)   | $x^6 + x^3 = 56$ (5)  |
| $x^8 - 4x^4 - 50 = 31x^4 - 84$ (8)   | $x - 9\sqrt{x} + 14 = 0$ (7)  |
| $(2x^2 - x)^2 - 4(2x^2 - x) + 3 = 0$ (10)  | $125x^6 - 1 = 124(x^6 + x^3 + 1)$ (9)   |
| $\frac{21}{x^2 - 4x + 10} = 6 + x^2 - 4x$ (12)   | $(x^2 + 2x)^2 + 7x^2 + 14x = -6$ (11)   |
| $\frac{x^2 + 2x + 2}{x^2 + 2x + 3} = \frac{7}{6} - \frac{x^2 + 2x + 1}{x^2 + 2x + 2}$ (14) | $\frac{12}{x^2 + 2x - 8} = 1 + \frac{7.5}{x^2 + 2x - 3}$ (13)                 |
| $\frac{x^2 - 1}{4x^2 - 28} + 2 = \frac{9}{x^4 - 8x^2 + 7} + \frac{x^2}{2x^2 - 2}$ (16)     | $\frac{3}{3x^2 - 15} + \frac{1}{x^2 + 5} = \frac{10}{x^4 - 25}$ (15)          |
| $\frac{3x^4}{(x+2)^2} + \frac{3x^2}{x+2} = 6$ (18)   | $\left(2x + \frac{3}{x}\right)^2 + 35 = 12\left(2x + \frac{3}{x}\right)$ (17) |
| $(x^2 - 5x + 6)(x^2 - 5x - 8) = -24$ (20)  | $(2x - x^2 + 3)(2x - x^2 - 2) = 0$ (19)                                       |

## תשובות סופיות:

$$x = \pm 1 \quad (1)$$

$$x = \pm 1, \pm \sqrt{2} \quad (2)$$

$$x = \pm \frac{1}{2}, \pm \frac{1}{3} \quad (3)$$

$$x = \pm 2, \pm 5 \quad (4)$$

$$x_1 = \sqrt[3]{7}, x_2 = -2 \quad (5)$$

$$x = -2, \sqrt[3]{4} \quad (6)$$

$$x_1 = 4, x_2 = 49 \quad (7)$$

$$x_{1,2} = \pm \sqrt[4]{34}, x_{3,4} = \pm 1 \quad (8)$$

$$x = 5, -1 \quad (9)$$

$$x_1 = 1.5, x_2 = -1, x_3 = 1, x_4 = -\frac{1}{2} \quad (10)$$

$$x = -1 \quad (11)$$

$$x_{1,2} = 1, 3 \quad (12)$$

$$x_1 = 0, x_2 = -2, x_3 = 3.06, x_4 = -5.06 \quad (13)$$

$$x_1 = 0, x_2 = -2 \quad (14)$$

(15) אין פתרונות.

$$x = \pm \sqrt{\frac{3}{7}} \quad (16)$$

$$x = \frac{1}{2}, 1, \frac{3}{2}, 3 \quad (17)$$

$$x = -1, 2 \quad (18)$$

$$x = 3, -1 \quad (19)$$

$$x = \pm 1, 4, 6 \quad (20)$$

## משוואות עם פרמטרים:

### סיכום כללי:

משוואה עם פרמטר הינה משוואה שמכילה שני סוגים של גדלים – משתנים ופרמטרים. את המשתנים מקובל לסמן באותיות  $x$ ,  $y$ ,  $z$  ואת הפרמטרים מסמנים בשאר האותיות. פתרון המשוואה יתקבל ע"י בידוד המשתנה כך שיבוטא באמצעות הפרמטרים שבמשוואה.

למשל פתרון המשוואה:  $mx=4$  (כאשר  $x$  הוא הנעלם ו- $m$  הוא פרמטר) הוא  $x = \frac{4}{m}$

אשר מבוטא באמצעות הפרמטר  $m$ .

בכתיבת פתרון של משוואה עם פרמטרים יש לציין את תחום ההגדרה של הפרמטר עבורו הפתרון הוא בעל משמעות. בדוגמא הנ"ל תחום ההגדרה הוא  $m \neq 0$ .

### שאלות:

(1) פתור את המשוואות הבאות:

$$\text{א. } 3x - b = (b + 1)x - 6 \quad \text{ב. } \frac{1}{3}(a - 3x) = \frac{1}{a}(ax - 3)$$

$$\text{ג. } (x - 2a)(x - 2b) = x^2 - 2(a^2 + b^2) \quad \text{ד. } \frac{m+1}{x-1} = \frac{m-1}{x+1}$$

$$\text{ה. } \frac{x}{a^2 - a} - \frac{1}{2a} = \frac{ax + x}{2a^3 - 4a^2 + 2a} - \frac{2}{a^3 - 2a^2 + a}$$

(2) פתור את מערכות המשוואות הבאות:

$$\text{א. } \begin{cases} x + my = 1 \\ x + y = m \end{cases} \quad \text{ב. } \begin{cases} ax + y = 2 \\ x + ay = 4 \end{cases}$$

$$\text{ג. } \begin{cases} \frac{x}{m} + y = m \\ x - m^2 y = 1 \end{cases} \quad \text{ד. } \begin{cases} (m-1)x - (2m+3)y = 5 \\ (m+2)x - (2m-1)y = 10m \end{cases}$$

$$\text{ה. } \begin{cases} (2a+b)x - (2a-b)y = 8ab \\ (2a-b)x + (2a+b)y = 8a^2 - 2b^2 \end{cases}$$

(3) פתור את המשוואות הריבועיות הבאות:

$$\text{א. } x^2 - 2mx + m^2 - 1 = 0 \quad \text{ב. } x^2 - 2x + 4a = a^2 + 3$$

$$\text{ג. } x^2 + m(x+10) = 2m^2 - 5x \quad \text{ד. } \frac{1}{a-x} + \frac{1}{a} + \frac{1}{a+x} = 0$$

$$\text{ה. } (m^2 + 1)x^2 - m^2x - 1 = 0 \quad \text{ו. } \frac{a}{x} + \frac{1}{b} = \frac{x}{a} + b$$

$$\text{ז. } x + \frac{1}{x} = \frac{a-b}{a+b} + \frac{a+b}{a-b}$$

תשובות סופיות:

$$\text{(1) א. } x = \frac{b-6}{2-b}, b \neq 2 \quad \text{ב. } x = \frac{a^2+9}{6a}, a \neq 0 \quad \text{ג. } x = a+b \quad \text{ד. } x = -m \quad \text{ה. } x = a+1$$

$$\text{(2) א. } m \neq 1, (m+1, -1) \quad \text{ב. } a \neq \pm 1, \left( \frac{2a-4}{a^2-1}, \frac{4a-2}{a^2-1} \right)$$

$$\text{ג. } m \neq 0-1, \left( m^2 - m + 1, \frac{m-1}{m} \right) \quad \text{ד. } m \neq 1, -2, (2m+1, m-2)$$

$$\text{ה. } b \neq \pm 2a, (2a+b, 2a-b)$$

$$\text{(3) א. } x = m+1, m-1 \quad \text{ב. } x = a-1, 3-a \quad \text{ג. } x = m-5, -2m$$

$$\text{ד. } a \neq 0, x \neq \pm a, x = \pm a\sqrt{3} \quad \text{ה. } x = 1, -\frac{1}{m^2+1}$$

$$\text{ו. } a, b \neq 0, x = \frac{a}{b}, -ab \quad \text{ז. } a \neq \pm b, x = \frac{a+b}{a-b}, \frac{a-b}{a+b}$$

## משוואות עם שורשים:

### סיכום כללי:

פתרון משוואה מהצורה:  $\sqrt{x} = a$  יתקבל ע"י העלאה בריבוע של שני אגפי המשוואה באופן הבא:  $x = a^2 \rightarrow (\sqrt{x})^2 = (a)^2$ .

### הערות:

- (1) יש לזכור בעת העלאה בריבוע של שני אגפי המשוואה יש לבדוק את כל הפתרונות המתקבלים ע"י הצבתם במשוואה המקורית.
- (2) למשוואה מהצורה  $\sqrt{x} = a$  שבה  $a < 0$  אין פתרון.
- (3) יש לסדר תחילה משוואות שבהן הביטוי עם שורש אינו מבודד.
- (4) במשוואות שבהן יותר מביטוי אחד עם שורש יש לבודד תחילה את אחד הביטויים, להעלות בריבוע ולאחר מכן לחזור על התהליך ולבצע העלאה בריבוע פעם נוספת.

### שאלות:

פתור את המשוואות הבאות:

- |  |   |
|--|---|
| $\sqrt{x+2} = x$ (2)                           | $\sqrt{2x+5} = 7$ (1)                               |
| $\sqrt{2x+7} + 4 = x$ (4)                      | $\sqrt{3x+1} + x = 13$ (3)                          |
| $\sqrt{10x+6} + 9 = x$ (6)                     | $\sqrt{x-1} + 3 = x$ (5)                            |
| $\sqrt{24-x} + 3 = 2x$ (8)                     | $\sqrt{x+6} - 2 = 2x$ (7)                           |
| $2x = 16 - 3\sqrt{x-1}$ (10)                   | $\sqrt{x+16} + 4 = 2x$ (9)                          |
| $\sqrt{x^2 - 5x + 12} = 2\sqrt{6-x}$ (12)      | $\sqrt{3x+5} = \sqrt{x+17}$ (11)                    |
| $\sqrt{2x-1} + 3 = \sqrt{7x+1}$ (14)           | $\sqrt{x-1} \cdot \sqrt{2x-5} = \sqrt{11-x^2}$ (13) |
| $\sqrt{2x-3} + \sqrt{3-x} = 2$ (16)            | $\sqrt{9x-8} - 3\sqrt{x+4} = -2$ (15)               |
| $\sqrt{2x-2} + \sqrt{5x-4} = \sqrt{3x-2}$ (18) | $\sqrt{x+3} + \sqrt{x-2} = \sqrt{4x+1}$ (17)        |
|  | $3\sqrt{x-1} + \sqrt{2x-3} = 2\sqrt{x+2}$ (19)      |

**תשובות סופיות:**

- |                           |               |
|---------------------------|---------------|
| $x = 2$ (2                | $x = 22$ (1   |
| $x = 9$ (4                | $x = 8$ (3    |
| $x = 25$ (6               | $x = 5$ (5    |
| $x = 3.75$ (8             | $x = 0.25$ (7 |
| $x = 5$ (10               | $x = 4.25$ (9 |
| $x = 4, -3$ (12           | $x = 6$ (11   |
| $x = 5$ (14               | $x = 3$ (13   |
| $x = 2, 2\frac{8}{9}$ (16 | $x = 12$ (15  |
| $x = 1$ (18               | $x = 6$ (17   |
|                           | $x = 2$ (19   |

## משוואות עם ערך מוחלט:

**סיכום כללי:**

**הגדרה:**

ערך מוחלט הינו המרחק של מספר מ-0 ומוגדר באופן הבא:  $|x| = \begin{cases} x & x \geq 0 \\ -x & x < 0 \end{cases}$ .

**משוואה עם ערך מוחלט:**

משוואה עם ערך מוחלט היא מהצורה:  $|x| = a$ .

כדי לפתור משוואה עם ערכים מוחלטים יש למצוא את נקודות האפס של כל ערך מוחלט (קרי: הנקודות בהן הביטוי שבתוך הערך המוחלט מתאפס) ולפצל את המשוואה הנתונה לתחומים עבור כל תחום.

**שאלות:**

פתור את המשוואות הבאות:

$$|3x+14|=7 \quad (1) \qquad |3x-24|=x \quad (2)$$

$$|12-x|=3x \quad (3) \qquad 2x-|8-x|=10 \quad (4)$$

$$|4x-5|=|2x+13| \quad (5) \qquad |14-3x|=2|x+5| \quad (6)$$

$$|x|+7=|2x| \quad (7) \qquad |x+2|+6=|2x-4| \quad (8)$$

$$|x+2|+|2x-6|=|4x+8| \quad (9) \qquad |10-3x|-|x+4|=|2x-6| \quad (10)$$

**תשובות סופיות:**

$$x = -\frac{7}{3}, -7 \quad (1) \qquad x = 6, 12 \quad (2) \qquad x = 3 \quad (3) \qquad x = 6 \quad (4)$$

$$x = 9, -1\frac{1}{3} \quad (5) \qquad x = 24, \frac{4}{5} \quad (6) \qquad x = \pm 7 \quad (7) \qquad x = 12, -1\frac{1}{3} \quad (8)$$

$$x = 0, -12 \quad (9) \qquad x = 0 \quad (10)$$

## מערכת משוואות ממעלה שנייה:

### סיכום כללי:

מערכת משוואות ריבועיות מיוחסת למערכת של שתי משוואות (לפחות) שאחת מהן מכילה את אחד מהנעלמים בריבוע. למערכת משוואות ריבועיות יכולים להתקבל עד 4 פתרונות שונים. יש לפתור את המערכת לפי הטכניקות הרגילות של בידוד והצבה או השוואת מקדמים.

### שאלות:

פתור את מערכות המשוואות הבאות:

$$\begin{cases} 2x^2 + y^2 = 36 \\ x^2 + 3y = 10 \end{cases} \quad (2)$$

$$\begin{cases} x^2 + y^2 = 20 \\ x + y = 6 \end{cases} \quad (1)$$

$$\begin{cases} x^2 - 2y^2 = 17 \\ xy = -10 \end{cases} \quad (4)$$

$$\begin{cases} 3x^2 + 4y^2 = 16 \\ 5x^2 - 3y^2 = 17 \end{cases} \quad (3)$$

$$\begin{cases} x^2 - 2xy + 8y^2 = 8 \\ 3xy - 2y^2 = 4 \end{cases} \quad (6)$$

$$\begin{cases} x^2 - xy - 20y^2 = 0 \\ x + 6y = 1 \end{cases} \quad (5)$$

$$\begin{cases} 16x^2 - y^2 = 391 \\ 4x - y = 23 \end{cases} \quad (8)$$

$$\begin{cases} x^2 - y^2 = 33 \\ x + y = 11 \end{cases} \quad (7)$$

$$\begin{cases} \frac{3}{x} + \frac{1}{y} = 5 \\ \frac{4}{y} - \frac{1}{x} = -19 \end{cases} \quad (10)$$

$$\begin{cases} 4xy + x = -15 \\ \frac{3}{y} - 2x = 16 \end{cases} \quad (9)$$

$$\begin{cases} xy = 24 \\ (y-x)^2 - 7(y-x) + 10 = 0 \end{cases} \quad (12)$$

$$\begin{cases} \frac{3}{x} + \frac{5}{y} = 21 \\ \frac{8}{x} - \frac{1}{y} = 13 \end{cases} \quad (11)$$

$$\begin{cases} \sqrt{\frac{x}{y}} + \sqrt{\frac{y}{x}} = \frac{10}{3} \\ x^2 + y^2 = 9xy + 25 \end{cases} \quad (14)$$

$$\begin{cases} x^2y - xy^2 = 84 \\ x^2 - 2xy + y^2 + 5x - 5y = 24 \end{cases} \quad (13)$$

## תשובות סופיות:

- |   |  |
|---|--|
| $(\pm 4, -2)$ <b>(2)</b>  | $(2, 4), (4, 2)$ <b>(1)</b>  |
| $(5, -2), (-5, 2)$ <b>(4)</b>   | $(\pm 2, \pm 1)$ <b>(3)</b>  |
| $\left(3, \frac{1}{2}\right), \left(-3, -\frac{1}{2}\right), (2, 1), (-2, -1)$ <b>(6)</b> | $\left(-2, \frac{1}{2}\right), \left(\frac{5}{11}, \frac{1}{11}\right)$ <b>(5)</b> |
| $(5, -3)$ <b>(8)</b>  | $(7, 4)$ <b>(7)</b>  |
| $\left(\frac{1}{3}, -\frac{1}{4}\right)$ <b>(10)</b>                                      | $\left(-5, \frac{1}{2}\right), \left(-24, -\frac{3}{32}\right)$ <b>(9)</b>         |
| $(4, 6), (-6, -4), (3, 8), (-8, -3)$ <b>(12)</b>  | $\left(\frac{1}{2}, \frac{1}{3}\right)$ <b>(11)</b>                                |
|   | $(-1.65, 6.35), (-6.35, 1.65), (7, 4), (-4, -7)$ <b>(13)</b>                       |
|   | $(5, 45), (-5, -45), (45, 5), (-45, -5)$ <b>(14)</b>                               |

## משוואות מסכמות מתקדמות:

### סיכום כללי:

### תזכורת מהירה:

- משוואה דו-ריבועית יכולה להופיע בכל תצורה (עם שורשים, עם ערכים מוחלטים וכו'). העיקרון הוא זיהוי תבנית של הנעלם אשר חוזרת על עצמה לאורך המשוואה. סימון התבנית במשתנה זמני ופתרון עבור משתנה זה תוביל למשוואה מוגדרת ופתירה. לאחר מכן יש להחזיר את ההצבה לתבנית של המשתנה המקורי ולמצוא את ערכיו.
- דרך הפתרון של משוואה עם שורשים היא ע"י בידוד השורש והעלאה בריבוע. במידה ויש יותר משורש אחד המופיעים בחיבור/חיסור יש לבצע את הפעולה פעמיים. חשוב לוודא נכונות של כל הפתרונות המתקבלים ע"י הצבה במשוואה המקורית לפני ההעלאות בריבוע.
- דרך הפתרון של משוואה עם ערכים מוחלטים היא ע"י פיצול המשוואה לתחומים לפי סימני הערך המוחלט. זאת יש לבצע ע"י איפוס הביטוי שבכל ערך מוחלט ומציאת ערכי הנעלם המקיימים זאת, חלוקת המשוואה לתחומים מתאימים ופתרונה בכל תחום. יש לזכור לבדוק האם הפתרון המתקבל נמצא בתחום הפתרון – במידה וכן הוא פתרון של המשוואה, אחרת הוא נפסל.
- משוואה עם פרמטרים נפתרת בצורה רגילה (התייחסות לפרמטרים כאל קבועים מספריים) כאשר יש לציין את תחומי ההגדרה שלהם. יש לבדוק פתרונות שמתקבלים המבוטאים באמצעות הפרמטרים במידה וקיימת הגבלת תחום הגדרה במשוואה.

## שאלות:

פתור את המשוואות הבאות:

$$\begin{array}{ll}
 x^2 + 5x - \sqrt{x^2 + 5x} - 30 = 0 & \text{(2)} & x + \sqrt{x+6} - 6 = 0 & \text{(1)} \\
 2x^2 + 6x - \sqrt{x^2 + 3x + 5} = 5 & \text{(4)} & 4x^2 + 16x - 4\sqrt{x^2 + 4x} - 3 = 0 & \text{(3)} \\
 x^2 - \sqrt{6x^2 - 15} = 1 & \text{(6)} & x^2 - \sqrt{16x^2 + 48} + 7 = 0 & \text{(5)} \\
 \frac{\sqrt{x^2 + 4x - 12}}{\sqrt{x-1}} + \sqrt{x+5} = \frac{7}{\sqrt{x-1}} & \text{(8)} & \frac{x^2}{\sqrt{3x-2}} - \sqrt{3x-2} = 1-x & \text{(7)} \\
 \sqrt{x^2 - 3x + 2} + \sqrt{x+3} = \sqrt{x-2} + \sqrt{x^2 + 2x - 3} & \text{(9)} \\
 \sqrt{x + \sqrt{14x - 49}} + \sqrt{x - \sqrt{14x - 49}} = \sqrt{14} & \text{(10)} \\
 \sqrt{x+6+6\sqrt{x-3}} - \sqrt{x+6-6\sqrt{x-3}} = 2 & \text{(11)} \\
 \frac{4}{x + \sqrt{x^2 + x}} - \frac{1}{x - \sqrt{x^2 + x}} = \frac{3}{x} & \text{(12)}
 \end{array}$$

פתור את המשוואות הבאות עבור  $a > 0$ :

$$x^2 + ax - 2a\sqrt{3x^2 + 3ax - 9a^2} = 0 \quad \text{(14)} \qquad x^2 + ax - 2a\sqrt{x^2 + ax - a^2} = 0 \quad \text{(13)}$$

פתור את המשוואות הבאות:

$$\begin{array}{ll}
 |4 - |5 - x|| = |x + 3| & \text{(16)} & |3 - |2 - x| + |x|| = 1 & \text{(15)} \\
 \sqrt{25 + |16x^2 - 25|} = 4 + 4|x+1| & \text{(18)} & \left| \frac{x + |3 - x|}{x + 2} \right| = 18 & \text{(17)} \\
 \frac{x^3 - 5x}{\sqrt{2x^2 - 4x - 1} - |x| + 2} = 0 & \text{(19)}
 \end{array}$$

$$\frac{|x+2|}{|x|+2} = |2-x|+2 : \text{הראה כי אין פתרון למשוואה הבאה:} \quad \text{(20)}$$

### תשובות סופיות:

(1)  $x = 3$

(2)  $x_1 = 4, x_2 = -9$

(3)  $x_1 = 0.5, x_2 = -4.5$

(4)  $x_1 = 1, x_2 = -4$

(5)  $x_{1,2} = \pm 1$

(6)  $x_{1,2} = \pm 2$

(7)  $x = 1$

(8)  $x = 3$

(9)  $x = 2$

(10)  $3.5 \leq x \leq 7$

(11)  $x = 4$

(12)  $x = 1, x = \frac{9}{16}$

(13)  $x_1 = -2a, x_2 = a$

(14)  $x_1 = -2a, x_2 = 3a$

(15)  $x \leq 0$

(16)  $x = -1$

(17)  $x = -\frac{39}{18}, -\frac{33}{18}$

(18)  $x \leq \frac{5}{4}, x = -\frac{1}{4}$

(19)  $x = -\sqrt{5}$

(20) שאלת הוכחה.

## ביטויים ומשוואות ממעלה שלישית:

### סיכום כללי:

נוסחאות הכפל המקוצר ממעלה שלישית:

$$(a \pm b)^3 = a^3 \pm 3a^2b + 3ab^2 \pm b^3$$

$$a^3 \pm b^3 = (a \pm b)(a^2 \mp ab + b^2)$$

### שאלות:

#### פישוט ביטויים:

פשט את הביטויים הבאים:

$$(2y+5)^3 \quad (2)$$

$$(x-3)^3 \quad (1)$$

$$8y^3 + 343 \quad (4)$$

$$8x^3 - 1 \quad (3)$$

$$x^3y^6z^9 - 1 \quad (6)$$

$$a^6 - 27 \quad (5)$$

$$64mn^4 - 8m^4n^7 \quad (8)$$

$$11 + 88x^{12} \quad (7)$$

$$\frac{x^3 + 64}{x^2 + 4x} \quad (10)$$

$$\frac{x^2 + 4x + 4}{x^3 + 6x^2 + 12x + 8} \quad (9)$$

#### משוואות בנעלם אחד עם נוסחאות הכפל המקוצר:

פתור את המשוואות הבאות:

$$125x^3 = 1 - 15x + 75x^2 \quad (12)$$

$$x^3 - 12x^2 + 48x - 64 = 0 \quad (11)$$

$$x^3 - 7x - 6 = 0 \quad (14)$$

$$x^3 + x - 30 = 0 \quad (13)$$

#### משוואות בנעלם אחד עם פירוקים שונים:

פתור את המשוואות הבאות:

$$2x^3 + 5x^2 - 2x - 5 = 0 \quad (16)$$

$$2x^3 - 7x^2 + 7x - 2 = 0 \quad (15)$$

## מערכת משוואות:

$$\begin{cases} x^3 + y^3 = 243 \\ x + y = 9 \end{cases} \quad \text{(17) פתור את מערכת המשוואות הבאה:}$$

$$\begin{cases} x^3 - y^3 = 91 \\ x^2y - xy^2 = 30 \end{cases} \quad \text{(18) פתור את מערכת המשוואות הבאה:}$$

## תשובות סופיות:

$$8y^3 + 60y^2 + 150y + 125 \quad \text{(10)}$$

$$(2y + 7)(4y^2 - 17y + 49) \quad \text{(11)}$$

$$(xy^2z^3 - 1)(x^2y^4z^6 + xy^2z^3 + 1) \quad \text{(12)}$$

$$8mn^4(2 - mn)(4 + 2mn + m^2n^2) \quad \text{(13)}$$

$$\frac{x^2 - 4x + 16}{x} \quad \text{(14)}$$

$$x = \frac{1}{2} \quad \text{(15)}$$

$$x_{1,2,3} = -2, -1, 3 \quad \text{(16)}$$

$$x_{1,2,3} = -2.5, -1, 1 \quad \text{(17)}$$

$$(-5, -6), (6, 5) \quad \text{(18)}$$

$$x^3 - 9x + 27x - 27 \quad \text{(1)}$$

$$(2x - 1)(4x^2 + 2x + 1) \quad \text{(2)}$$

$$(a^2 - 3)(a^4 + 3a^2 + 9) \quad \text{(3)}$$

$$8(1 + 2x^4)(1 - 2x^4 + 4x^8) \quad \text{(4)}$$

$$\frac{1}{x + 2} \quad \text{(5)}$$

$$x = 4 \quad \text{(6)}$$

$$x = 3 \quad \text{(7)}$$

$$x_{1,2,3} = \frac{1}{2}, 1, 2 \quad \text{(8)}$$

$$(3, 6), (6, 3) \quad \text{(9)}$$

# מכינה למבחן פטור (חדוא 0)

פרק 3 - אי שוויונים אלגבריים

תוכן העניינים

1. אי שוויונים ממעלה ראשונה ..... 69
2. אי שוויונים ממעלה שנייה ..... 71
3. אי שוויונים ממעלה שלישית ..... 72
4. אי שוויונים עם מנה ..... 73
5. אי שוויונים כפולים מערכות וגם ואו ..... 75
6. שאלות מסכמות ..... 76
7. אי שוויונים עם שורשים ..... 78
8. מציאת תחום הגדרה ..... 80
9. אי שוויונים עם ערך מוחלט ..... 82

## אי-שוויונים ממעלה ראשונה:

### סיכום כללי:

#### פעולות המותרות לביצוע בפתרון אי-שוויון:

- לחבר או לחסר כל מספר או ביטוי.
- לכפול או לחלק בכל מספר או ביטוי חיובי.
- לכפול או לחלק בכל מספר או ביטוי שלילי תוך הפיכת סימן אי-השוויון.
- להעלות בחזקה אי זוגית.
- להעלות בחזקה זוגית אם שני אגפי אי-השוויון אינם שליליים.

#### פעולות אסורות לביצוע בפתרון אי-שוויון:

- לכפול או לחלק בביטוי שלא יודעים את סימנו.
- להעלות בחזקה זוגית כשיש אגף שלילי.

### שאלות:

פתור את אי-השוויונים הבאים:

$6x > 2(3x-1)$ (2)	$45x - 26 > 109$ (1)
$(x-2)^2 + 4 < (x+2)^2 + 20$ (4)	$2(x-5) \geq \frac{1}{2}(4x+6)$ (3)
$4(6x-8) < 8(3x-4)$ (6)	$\frac{8x-4}{2} < \frac{9(x+1)}{3}$ (5)
$\frac{7-x}{10} - \frac{3x-1}{5} + \frac{x+4}{3} < 7$ (8)	$\frac{x-6}{3} - \frac{x-4}{4} \geq 12-x$ (7)

**תשובות סופיות:**

$$x > 3 \quad (1)$$

$$x \text{ כל} \quad (2)$$

$$x \text{ אף} \quad (3)$$

$$x > -2 \quad (4)$$

$$x < 5 \quad (5)$$

$$x \text{ אף} \quad (6)$$

$$x \geq 12 \quad (7)$$

$$x > -13 \quad (8)$$

## אי-שוויונים ממעלה שנייה:

### סיכום כללי:

אי שוויון ריבועי הוא מהצורה:  $ax^2 + bx + c > 0$  כאשר  $a \neq 0$ .

כדי לפתור אי שוויון ריבועי יש למצוא את נקודות האפס של הביטוי הריבועי ולאחר מכן למצוא את תחום ההצבה עבורו הביטוי מקיים את אי השוויון עצמו.

### שאלות:

פתור את אי-השוויונים הבאים:

- |                               |  |
|-------------------------------|--|
| $x^2 - 12x > -32$ (2)         | $x^2 < 144$ (1)                        |
| $(x+2)(x+4) < 35$ (4)         | $(x+2)(x+5) < 0$ (3)                   |
| $(x-3)(x-7) \geq 8x - 56$ (6) | $-x^2 + 13x + 30 < 0$ (5)              |
| $(5x+6)^2 \leq 4(x-3)^2$ (8)  | $(x-5)^2 + x(x+2) < 89$ (7)            |
| $x^2 - 10x + 25 > 0$ (10)     | $-3x^2 + 12x > 0$ (9)                  |
| $2x^2 + 2x + 24 \geq 0$ (12)  | $(x-3)^2 > (x-1)(x+6) - x^2 - 3x$ (11) |

### תשובות סופיות:

- |                           |                      |
|---------------------------|----------------------|
| $x < 4, x > 8$ (2)        | $-12 < x < 12$ (1)   |
| $-9 < x < 3$ (4)          | $-5 < x < -2$ (3)    |
| $x \leq 7, x \geq 11$ (6) | $x < -2, x > 15$ (5) |
| $-4 \leq x \leq 0$ (8)    | $-4 < x < 8$ (7)     |
| $x > 5, x < 5$ (10)       | $0 < x < 4$ (9)      |
| $x$ כל (12)               | $x < 3, x > 5$ (11)  |

## אי-שוויונים ממעלה שלישית:

### סיכום כללי:

אי שוויונים ממעלה גבוהה מיוחסים לכאלה שניתן לכתוב אותם בצורה של פולינומים, כגון:  $x^4 + 2x^2 + 1 < 0$ ,  $x^3 - 4x^2 + 4x + 1 > 0$ . וכי.  
 בפועל נפתור אותם ע"י פירוק לגורמים ומציאת נקודות האפס של כל גורם.  
 לאחר מכן נבדוק את כל אחד מתחומי המספרים המתקבלים עבור הנעלם ונראה באלו מהם מתקבל פסוק אמת.

### שאלות:

פתור את אי-השוויונים הבאים:

$x(x^2 + x + 1) > 0$ (2)	$(x-1)(x-2)(x-3) > 0$ (1)
$x^3 - 25x \geq 0$ (4)	$(-2x^2 - 3x + 2)(x+1) \leq 0$ (3)
$(x^2 + 8x + 20)(3x - 5) \leq 0$ (6)	$(x^2 + 3x + 5)(x - 2) > 0$ (5)
$x^3 - 6x^2 + 9x \leq 0$ (8)	$(x^2 - x - 6)(x - 1) < 0$ (7)
$(x-2)(x-4)(x-1) < 0$ (10)	$(x^2 + 6)(x+3) > 0$ (9)

### תשובות סופיות:

$x > 0$ (2)	$1 < x < 2, x > 3$ (1)
$-5 \leq x \leq 0, x \geq 5$ (4)	$-2 \leq x \leq -1, x \geq \frac{1}{2}$ (3)
$x \leq 1\frac{2}{3}$ (6)	$x > 2$ (5)
$x \leq 0, x = 3$ (8)	$x < -2, 1 < x < 3$ (7)
$x < 1, 2 < x < 4$ (10)	$x > -3$ (9)

## אי-שוויונים עם מנה:

### סיכום כללי:

אי שוויון מהצורה:  $\frac{f(x)}{g(x)} > 0$  או  $\frac{f(x)}{g(x)} < 0$  נקרא אי-שוויון עם מנה, בו  $f(x)$

ו- $g(x)$  הם פולינומים כלשהם.

למשל:  $\frac{2x+4}{x^2-3x+4} < 0$  בו:  $f(x) = 2x+4$  ו- $g(x) = x^2-3x+4$ .

כדי לפתור אי שוויון עם מנה נמצא את נקודות האפס של  $f(x)$  ושל  $g(x)$  ונציב מספרים בתחומים המתקבלים. אלו שיתנו פסוק אמת יהוו את פתרון אי השוויון.

### הערות:

- ניתן לבצע כפל של המכנה בריבוע בכדי להעביר את אי השוויון לצורה של מכפלות.
- ניתן להעביר אי שוויון המכיל מספר מנות ומספרים שלמים לצורה הנ"ל ע"י פעולות אלגבריות מתאימות תחילה.

### שאלות:

פתור את אי-השוויונים הבאים:

$\frac{x-1}{3x+2} \geq -3$ (2)	$\frac{x-1}{x^2-9} > 0$ (1)
$\frac{x-3}{2x^2-10x+12} > 0$ (4)	$\frac{1}{x^2-16} > 0$ (3)
$\frac{1}{-3(x-1)} < 0$ (6)	$\frac{2x-1}{x-5} \leq 0$ (5)
$\frac{1}{x^2-5x+6} < 0$ (8)	$\frac{x-1}{x+2} \leq 1$ (7)
$\frac{1}{x^2-8x+12} \geq 0$ (10)	$\frac{x^2-7x+6}{-x^2+3x-7} \geq 0$ (9)

**תשובות סופיות:**

$$x < -\frac{2}{3}, x \geq -\frac{1}{2} \quad (2)$$

$$2 < x < 3, x > 3 \quad (4)$$

$$x > 1 \quad (6)$$

$$2 < x < 3 \quad (8)$$

$$x < 2, x > 6 \quad (10)$$

$$-3 < x < 1, x > 3 \quad (1)$$

$$x < -4, x > 4 \quad (3)$$

$$\frac{1}{2} \leq x < 5 \quad (5)$$

$$x > -2 \quad (7)$$

$$1 \leq x \leq 6 \quad (9)$$

## אי-שוויונים כפולים - מערכת וגם:

### סיכום כללי:

אי-שוויון כפול הוא צורה מקוצרת להציג שני אי-שוויונים אשר יש לפתור יחד (קרי: כמערכת יוגם!). למשל במקום לכתוב:  $a < b$  וגם  $b < c$ , ניתן לכתוב:  $a < b < c$ . מכאן כי כדי לפתור אי שוויון כפול יש לפצל אותו תחילה לשני אי-שוויונים ולפתור כל אחד בנפרד. לאחר מכן יש לקחת את חיתוך הפתרונות.

### שאלות:

פתור את אי-השוויונים הבאים:

$$0 < \frac{1}{x+4} < 2 \quad (2)$$

$$3 < x+1 < 5 \quad (1)$$

$$0 < \frac{8-3x}{5-2x} < 4 \quad (4)$$

$$-1 < \frac{x-1}{x+1} < 1 \quad (3)$$

$$6 < \frac{2x+10}{3} \leq \frac{7x-20}{5} \quad (6)$$

$$6x-38 \leq x-3 \leq 5x+7 \quad (5)$$

$$\frac{4x+5}{15} > \frac{3x-8}{5} + \frac{9-x}{3} > 11 \quad (8)$$

$$-1 \leq \frac{2x-6}{4} < \frac{x+2}{3} \quad (7)$$

### תשובות סופיות:

$$x > -3\frac{1}{2} \quad (2)$$

$$2 < x < 4 \quad (1)$$

$$x < 2\frac{2}{5}, x > 2\frac{2}{3} \quad (4)$$

$$x > 0 \quad (3)$$

$$x \geq 10 \quad (6)$$

$$-2.5 \leq x \leq 7 \quad (5)$$

$$\emptyset \quad (8)$$

$$1 \leq x < 13 \quad (7)$$

## שאלות מסכמות – אי-שוויונים:

### שאלות:

פתור את אי-השוויונים הבאים:

$$x \leq -\frac{3}{4} \cap \{-2 < x \leq 5 \cup 0 < x < 8\} \quad (1)$$

$$\frac{(x-3)(x+4)}{2-x} \leq 0 \quad (3) \quad x(x+5) - 3x + 15 \leq 2x - 1 - x(4-x) \quad (2)$$

$$\frac{(2x-3)(x-12)}{(x+1)(4-x)} \geq 0 \quad (5) \quad \frac{(x-5)(3x+1)}{(2-x)(x+7)} < 0 \quad (4)$$

$$\frac{(x-6)^2(x+1)}{x-2} > 0 \quad (7) \quad x(x+3)(2x-5) < 0 \quad (6)$$

$$\frac{x-3}{x^2+2} > 0 \quad (9) \quad \frac{5-2x}{(x-8)^2} \leq 0 \quad (8)$$

$$\frac{x^2-6x+9}{x^3-x} > 0 \quad (11) \quad \frac{x^2-4x}{x^2+2x-3} > 0 \quad (10)$$

$$\frac{x}{x^2-4} + \frac{1}{x+2} < \frac{1}{x-2} \quad (13) \quad \frac{x-7}{x^2+x+3} > 0 \quad (12)$$

$$6 < 5x - x^2 \cap x^2 > 3x + 10 \quad (15) \quad \frac{2x^2}{x^2-6x+8} \geq \frac{x}{x-4} - \frac{x}{x-2} \quad (14)$$

$$1 < \frac{x-1}{x-4} \leq 2 \quad (17) \quad \frac{3}{x-1} - \frac{2}{x} > 0 \cup \frac{1}{x-3} < \frac{1}{1-x} \quad (16)$$

$$(18) \text{ לאלו ערכי } x \text{ נמצאת הפונקציה } f(x) = \frac{x}{x-3} \text{ מעל הפונקציה } g(x) = \frac{x+1}{x+3} ?$$

## תשובות סופיות:

- |   |                                      |
|---|--------------------------------------|
| $x \leq -4$ (2)                           | $-2 < x \leq -\frac{3}{4}$ (1)       |
| $x < -7, -\frac{1}{3} < x < 2, x > 5$ (4) | $-4 \leq x < 2, 3 \leq x$ (3)        |
| $x < -3, 0 < x < 2.5$ (6)                 | $-1 < x \leq 1.5, 4 < x \leq 12$ (5) |
| $2.5 \leq x < 8, x > 8$ (8)               | $x < -1, 2 < x < 6, x > 6$ (7)       |
| $x < -3, 0 < x < 1, x > 4$ (10)           | $x > 3$ (9)                          |
| $x > 7$ (12)                              | $-1 < x < 0, 1 < x < 3, x > 3$ (11)  |
| $x \leq 0, 1 \leq x < 2, x > 4$ (14)      | $x < -2, 2 < x < 4$ (13)             |
| $x \neq 1$ (16)                           | $x \neq 7$ (15)                      |
| $-3 < x < -\frac{3}{5}, x > 3$ (18)       | $x \geq 7$ (17)                      |

## אי שוויונים עם שורשים:

סיכום כללי:

מקרים בפתרון אי-שוויונות עם שורשים:

מקרה	אי השוויון	פתרון
$a \geq 0$	$\sqrt{f(x)} < a$	$0 \leq f(x) < a^2$
$a < 0$	$\sqrt{f(x)} < a$	אין פתרון
	$\sqrt{f(x)} > a$	כל $x$ בת.ה. של $f(x)$

שאלות:

פתור את אי השוויונים הבאים:

$$\sqrt{2x-5} \geq 1 \quad (2)$$

$$\sqrt{x+3} < 7 \quad (1)$$

$$\sqrt{x^2+x-6} < x-3 \quad (4)$$

$$\sqrt{2x^2+5x-6} > 2-x \quad (3)$$

$$\sqrt{x^2+5x+6} - \sqrt{x^2-x+1} < 1 \quad (6)$$

$$\sqrt{x^2+3x+2} - 1 < \sqrt{x^2-x+1} \quad (5)$$

$$\frac{4}{\sqrt{2-x}} - \sqrt{2-x} < 2 \quad (8)$$

$$\frac{1-\sqrt{1-4x^2}}{x} > \frac{3}{2} \quad (7)$$

$$\sqrt{2-\sqrt{3+x}} < \sqrt{4+x} \quad (10)$$

$$\sqrt{\frac{1}{x^2} - \frac{3}{4}} < \frac{1}{x} - \frac{1}{2} \quad (9)$$

$$\sqrt{1+\frac{9}{x}} + 5\sqrt{\frac{x}{x+9}} \geq 4 \quad (12)$$

$$\sqrt{x+6} > \sqrt{x+1} + \sqrt{2x-5} \quad (11)$$

**תשובות סופיות:**

$$. -3 \leq x < 46 \quad (1)$$

$$. x \geq 3 \quad (2)$$

$$. x < -10, x > 1 \quad (3)$$

$$. \emptyset \quad (4)$$

$$. x \leq -2, -1 \leq x < \frac{-1 + \sqrt{13}}{6} \quad (5)$$

$$. x \leq -3, -2 \leq x < \frac{-13 + \sqrt{73}}{16} \quad (6)$$

$$. \frac{12}{25} < x \leq \frac{1}{2} \quad (7)$$

$$. x < 2\sqrt{5} - 4 \quad (8)$$

$$. 1 < x \leq \frac{2}{\sqrt{3}} \quad (9)$$

$$. -2.618 < x \leq 1 \text{ שזה: } -\frac{3 + \sqrt{5}}{2} < x \leq 1 \quad (10)$$

$$. 2.5 \leq x < 3 \quad (11)$$

$$. x < -9, x > 0 \quad (12)$$

## תחום הגדרה:

### שאלות:

1 מצא את תחום ההגדרה של הפונקציות הבאות:

א. $f(x) = \sqrt{3x-4}$	ב. $f(x) = \sqrt{x^2 - 5x - 6}$
ג. $f(x) = \sqrt{12x - x^2 - x^3}$	ד. $f(x) = \sqrt{\frac{x+5}{x^2-4}}$
ה. $f(x) = \frac{1}{\sqrt{x+2}-x}$	ו. $f(x) = \frac{\sqrt{3x^2-2x-1}}{2x-3}$

2 מצא את תחום ההגדרה של הפונקציות הבאות:

א. $f(x) = \sqrt{\sqrt{x+2}-3}$	ב. $f(x) = \frac{1}{x+\sqrt{x+6}}$
ג. $f(x) = \sqrt{\frac{2x^2+x-3}{x^2+5x+9}}$	ד. $f(x) = \frac{\sqrt{x^2+5x+6}}{x-1}$

3 תחום ההגדרה של הפונקציה:  $f(x) = \sqrt{ax - x^2 - 4}$  הוא  $1 \leq x \leq 4$ . מצא את ערכו של הפרמטר  $a$ .

4 תחום ההגדרה של הפונקציה:  $f(x) = \sqrt{\frac{x+a}{x-a}}$  הוא  $x \leq -2, x > 2$ . מצא את ערכו של הפרמטר  $a$ .

5 נתונה הפונקציה:  $f(x) = \sqrt{\sqrt{x+6}-a}$ ,  $a$  פרמטר חיובי.

א. הבע באמצעות  $a$  את תחום הגדרתה.

ב. מגדירים פונקציה נוספת:  $g(x) = \sqrt{\frac{2x}{x+5}}$ .

ידוע כי תחום ההגדרה של שתי הפונקציות מכסה את כל ציר המספרים. מצא את תחום הערכים האפשרי של הפרמטר  $a$ .

## תשובות סופיות:

- (1) א.  $x \geq 1\frac{1}{3}$     ב.  $x \leq -1, x \geq 6$     ג.  $x \leq -4, 0 \leq x \leq 3$
- ד.  $-5 \leq x < -2, x > 2$     ה.  $-2 \leq x < 2, x > 2$     ו.  $x \leq -\frac{1}{3}, 1 \leq x < \frac{3}{2}, x > \frac{3}{2}$
- (2) א.  $x \geq 7$     ב.  $-6 \leq x \neq -2$     ג.  $x \leq -1\frac{1}{2}, x \geq 1$
- ד.  $x \leq -3, -2 \leq x \neq 1$
- (3)  $a = 5$
- (4)  $a = 2$
- (5) א.  $x \geq a^2 - 6$     ב.  $0 < a \leq 1$

## אי שוויונים עם ערך מוחלט:

### סיכום כללי:

כללים לפתרון אי שוויון עם ערך מוחלט יחיד:

$ x  > a$	$ x  < a$	מקרה
$x < -a \cap x > a$	$-a < x < a$	פתרון

כללים לפתרון אי שוויון עם מספר ערכים מוחלטים:

- נמצא את הנקודות המאפסות כל ביטוי עם ערך מוחלט.
- מחלקים את אי השוויון לתחומים לפי נקודות האפס.
- פותרים את אי השוויון לכל תחום בנפרד.
- כותבים פתרון כללי (מערכת או) לכל התחומים יחדיו.

### שאלות:

(1) פתור את אי-השוויונים הבאים:

א.  $|x+2| < 3$       ב.  $|2x+1| > 7$   
 ג.  $|6-2x| < x$       ד.  $|2x+1|-3x > 4$

(2) פתור את אי-השוויונים הבאים:

א.  $1 < |4-3x| < 7$       ב.  $|2x+3| < 8 < |5-x|$

(3) פתור את אי-השוויונים הבאים:

א.  $|x^2 + 6x - 4| < 12$       ב.  $|x^2 + x - 10| > 3x - 2$   
 ג.  $|x^2 - 3x| < 4$       ד.  $|6x^2 - 7x - 4| > 1$   
 ה.  $x^2 - 6|x| + 5 \leq 0$       ו.  $x^2 - 6|x+1| - 1 > 0$

(4) פתור את אי-השוויונים הבאים:

$$\begin{array}{ll} \text{א. } |x-3|+|2x+2|>7 & \text{ב. } |x+8|<11-|1-3x| \\ \text{ג. } |3-2x|-11>4-|6+x| & \text{ד. } |2x-6|+|x+5|>14-|1-x| \\ \text{ה. } |5+4x|-|3-x|+\left|4-\frac{1}{2}x\right|\leq 22 & \text{ו. } |x+3|+|x^2-5x+4|<19 \end{array}$$

(5) פתור את אי-השוויונים הבאים:

$$\begin{array}{ll} \text{א. } \left|\frac{3x-1}{x-2}\right|\geq 3 & \text{ב. } 1\leq\left|\frac{x+2}{x-2}\right|\leq 2 \\ \text{ג. } \frac{|x-6|+8x}{x-12}\leq 12 & \text{ד. } \left|\frac{x^2+3x+2}{x^2-3x+2}\right|> 5 \end{array}$$

(6) פתור את אי-השוויונים הבאים (ערך מוחלט ושורשים):

$$\begin{array}{ll} \text{א. } \sqrt{x^2-|x-12|}<x & \text{ב. } 2-\sqrt{1-x}\leq|x+2|-3 \\ \text{ג. } \sqrt{|2x+1|-x-1}\leq 4-|3x| & \text{ד. } \frac{|x+2|-|x|}{\sqrt{4-x^3}}>0 \end{array}$$

## תשובות סופיות:

- (1) א.  $-5 < x < 1$   
 ג.  $2 < x < 6$
- (2) א.  $-1 < x < 1$  או  $1\frac{2}{3} < x < 3\frac{2}{3}$   
 ב.  $-5\frac{1}{2} < x < -3$
- (3) א.  $-8 < x < -4$  או  $-2 < x < 2$   
 ג.  $-1 < x < 4$
- ה.  $-5 \leq x \leq -1$  או  $1 \leq x \leq 5$
- (4) א.  $x < -2$  או  $2 < x$   
 ג.  $x < -6$  או  $4 < x$
- ה.  $-7\frac{3}{7} \leq x \leq 4$
- (5) א.  $\frac{7}{6} \leq x < 2$ ,  $x > 2$   
 ג.  $x < 12$ ,  $x \geq 46$
- (6) א.  $x = -1$ ,  $x \geq 3$ ,  $x \neq 12$   
 ג.  $0 \leq x \leq 1$ ,  $-1 \leq x \leq -\frac{2}{3}$
- ב.  $x < -4$  או  $3 < x$   
 ד.  $x < -1$
- ב.  $-5\frac{1}{2} < x < -3$
- ב.  $x < 2$  או  $4 < x$   
 ד.  $x < -\frac{1}{2}$ ,  $-\frac{1}{3} < x < \frac{3}{2}$ ,  $x > \frac{5}{3}$
- ו.  $x < -5$ ,  $x > 7$   
 ב.  $-1 < x < 1$   
 ד.  $x < -1$  או  $4 < x$   
 ו.  $-2 < x < 6$
- ב.  $0 \leq x \leq \frac{2}{3}$ ,  $x \geq 6$
- ד.  $\frac{1}{2} < x < 1$ ,  $1 < x < 2$ ,  $2 < x \leq 4$
- ב.  $x \leq \frac{-15 + \sqrt{33}}{2}$   
 ד.  $-1 < x < \sqrt[3]{4}$

# מכינה למבחן פטור (חדוא 0)

פרק 4 - חוקי החזקות והשורשים

תוכן העניינים

85	.....	1. חוקי החזקות
90	.....	2. חוקי השורשים
94	.....	3. כתיבה מדעית של מספרים

## חוקי החזקות:

סיכום כללי:

סיכום חוקי החזקות:

$$\begin{array}{lll}
 a^n \cdot a^m = a^{m+n} & .3 & a^1 = a & .2 & a^0 = 1 & .1 \\
 a^m \cdot b^m = (a \cdot b)^m & .6 & (a^n)^m = a^{n \cdot m} & .5 & \frac{a^n}{a^m} = a^{n-m} & .4 \\
 \left(\frac{a}{b}\right)^{-m} = \left(\frac{b}{a}\right)^m & .9 & a^{-m} = \frac{1}{a^m} & .8 & \frac{a^m}{b^m} = \left(\frac{a}{b}\right)^m & .7
 \end{array}$$

שאלות:

(1) פשט את הביטויים הבאים בעזרת החוקים:  $a^n a^m = a^{n+m}$  ו-  $\frac{a^n}{a^m} = a^{n-m}$

$$\begin{array}{lll}
 a^2 a^6 & .א & t^3 t^5 t^7 & .ב & b^2 b^5 b^{12} b^3 & .ג \\
 \frac{k^8}{k^3} & .ד & \frac{n^{14}}{n^9} & .ה & \frac{c^6}{c^2} & .ו \\
 \frac{a^3 a^{19}}{a^{15}} & .ז & \frac{x^{30}}{x^9 x^{18}} & .ח & \frac{y^3 y^{15}}{y^4 y^{14}} & .ט \\
 3^2 3^3 3^4 & .י & \frac{2^{16} 2^2}{2^{10}} & .יא & \frac{5^{20} 5^3 5^{16}}{5^4 5^{22} 5^8} & .יב
 \end{array}$$

(2) פשט את הביטויים הבאים בעזרת החוקים:  $a^n a^m = a^{n+m}$  ו-  $\frac{a^n}{a^m} = a^{n-m}$

$$\begin{array}{lll}
 \frac{3^4 2^7}{2^6 3^2} & .א & \frac{a^{10} b^{13} a^3}{b^4 b^6 b^2 a^{12}} & .ב & \frac{x^8 y^5 y^9 x^2}{y^4 x^4} & .ג
 \end{array}$$

(3) לפניך הביטוי הבא:  $\frac{3^6 2^{17} 3^3 2^4}{3^4 2^3 2^2}$

מצא  $n$  כך שיתקיים שוויון בין הביטוי  $243 \cdot 2^n$  לבין הביטוי הנתון.

(4) חשב ללא מחשבון את ערכי הביטויים הבאים:

$\frac{9^3 \cdot 27^2}{3^9 \cdot 81}$ .ב.	$\frac{2^3 \cdot 2^7}{2^4 \cdot 2^5}$ .א.	
$2^3 + 2^5$ .ד.	$\frac{10^9 \cdot 25^5 \cdot 8^{-1}}{40^3 \cdot 125^5}$ .ג.	

(5) פשט את הביטויים הבאים בעזרת החוק:  $(a^n)^m = a^{n \cdot m}$ .

$(x^3 x^{10})^2$ .ג.	$(c^3)^{10}$ .ב.	$(a^2)^4$ .א.
$\frac{d^{20} (d^4)^2}{d^{12} (d^3)^2}$ .ו.	$\frac{n^7 n^8}{(n^3)^4}$ .ה.	$\frac{(b^2)^3}{b^2 b^3}$ .ד.
$\frac{(8^3)^8 8^{11}}{(8^2 8)^3 8^8}$ .ט.	$\frac{3^6 (3^3 3^2)^6}{3^{28} (3^2)^3}$ .ח.	$\frac{2^5 (2^4)^2 2^3}{(2^3 2^2)^3}$ .ז.
$\frac{(3^2)^7 5^{10} (5^3)^2}{3^9 5^{16}}$ .יב.	$\frac{(3^2)^6 5^{31} 3^7}{(5^2)^{10} 5^{11} 3^{18}}$ .יא.	$\frac{(2^4)^5 (3^6)^7 2^{20}}{3^{35} 2^{40}}$ .י.

(6) לפניך הביטויים הבאים:  $\left( (3^2)^3 \right)^4$  ו-  $\left( (3^6)^n \right)^2$ .

מצא  $n$  כך שיתקיים שוויון בין שני הביטויים.

(7) חשב ללא מחשבון את הביטויים הבאים:

$\frac{7^{12} 2^2 2^6}{2^5 7^{10} 7}$ .ג.	$\frac{5^{20} 3^{14} 3^8}{3^{20} 5^{12} 5^8}$ .ב.	$\frac{2^3 3^5}{2^2 3^4}$ .א.
---	---	-------------------------------

(8) פשט את הביטויים הבאים:

$125 \cdot 25 \cdot 5^5$ .ג.	$64^2 2^3 8^2$ .ב.	$3^2 9 \cdot 81^2$ .א.
$\frac{\left( (3^4)^4 \right)^5}{81^3 27^4 3^5}$ .ו.	$\frac{(4^2)^3 16}{64 \cdot 2^3}$ .ה.	$\frac{2^4 \cdot 16^5}{8 \cdot 512}$ .ד.

9 פשט את הביטויים הבאים :

$\frac{(k^2)^{m+2} \cdot k^{1-3m}}{(k^{2m})^3 \cdot \frac{1}{k^{7m-4}}}$	ב.	$\frac{(2a^2b)^3 \cdot (ab^{-3})^2}{4ab^{-2} \cdot \left(\frac{a^2}{b}\right)^4}$	א.
$\frac{1}{x^2} \cdot \frac{x^{n+3} + x^{n+5}}{x^{n+2}}$	ד.	$\frac{4^{b+3}}{4^{b+1} + 4^{b+2}}$	ג.

10 פשט את הביטויים הבאים בעזרת החוקים:  $(ab)^n = a^n b^n$  ו-  $\left(\frac{a}{b}\right)^n = \frac{a^n}{b^n}$

$(x^{12}y^3)^3$	ג.	$(m^4n^3)^5$	ב.	$(a^2b)^3$	א.
$\left(\frac{a^{14}b^4}{a^6ab^3}\right)^3$	ו.	$\left(\frac{i^4}{k^3}\right)^7$	ה.	$\left(\frac{a^3}{b^2}\right)^4$	ד.
$\left(\frac{(b^{12}c)^2 c^{14}}{c(c^3b^5)^4 b^3}\right)^2$	ט.	$\left(\frac{t^7 r^{20} t^3}{r^2 r^{12} t^8}\right)^2$	ח.	$\left(\frac{x^3 y^5 y^2 x^6}{y^4 x^7}\right)^6$	ז.

11 חשב ללא מחשבון את הביטויים הבאים :

$\left(\frac{7^3 \cdot 16 \cdot 128 \cdot 49}{(2^27)^5}\right)^3$	ג.	$\left(\frac{(5^4)^2 3^6}{3^5 5^7}\right)^2$	ב.	$\left(\frac{3^9 2^6 2^2}{3^6 2^5 3^2}\right)^2$	א.
---	----	--	----	--	----

12 בטא את הביטויים הבאים מחדש בעזרת שימוש בחזקה שלילית :

$\frac{1}{2^{10}}$	ג.	$\frac{1}{5^3}$	ב.	$\frac{1}{4^6}$	א.
$\frac{1}{125}$	ו.	$\frac{1}{81}$	ה.	$\frac{1}{8}$	ד.

13 בטא את הביטויים הבאים מחדש בעזרת שימוש בחזקה חיובית וחשב את ערכם :

$\frac{1}{5^{-3}}$	ג.	$\frac{1}{3^{-2}}$	ב.	$\frac{1}{4^{-3}}$	א.
--------------------	----	--------------------	----	--------------------	----

14) חשב את הביטויים הבאים :

ג.  $5^6 \cdot 5^{-3} \cdot 5^{-2}$

ב.  $2^{-8} \cdot 512 \cdot 2^2$

א.  $3^2 \cdot 3^{-5} \cdot 3^7$

ו.  $\frac{3^{-6} \cdot 7^7 \cdot 7^{-4}}{3^{-4} \cdot 3^{-3} \cdot 7^3}$

ה.  $\frac{2^{-5} \cdot 5^3 \cdot 2^{14}}{5^2 \cdot 5^{-10} \cdot 5^8 \cdot 2^6}$

ד.  $2^{14} \cdot 3^{-6} \cdot 2^{16} \cdot 3^4 \cdot 2^{-30}$

15) פשט את הביטויים הבאים לצורה ללא חזקות שליליות.

ג.  $\frac{2^{-3} 5^4}{5^4 \cdot 125 \cdot (5^2 2)^{-3} \cdot 2^{-4}}$

ב.  $\frac{(4^4)^{-4} 3^{-11}}{(3^{-2} 4^3)^{-6}}$

א.  $\left(\frac{5^{-4}}{3^2}\right)^{-6}$

16) פשט את הביטויים הבאים :

ג.  $\frac{(m^{n+2})^3 \cdot m^{-4n-2}}{\frac{1}{m^{6n+2}} \cdot (m^3)^{n-2}}$

ב.  $\frac{(k^2)^{m+2} \cdot k^{1-3m}}{(k^{2m})^3 \cdot \frac{1}{k^{7m-4}}}$

א.  $\frac{a^{n+2} \cdot a^{2-3n}}{(a^3)^{n+1}}$

## תשובות סופיות:

- (1) א.  $a^8$  ב.  $t^{15}$  ג.  $b^{22}$  ד.  $k^5$  ה.  $n^5$  ו.  $c^4$   
 ז.  $a^7$  ח.  $x^3$  ט. 1 י.  $3^9$  יא.  $2^8$  יב.  $5^5$
- (2) א. 18 ב.  $ab$  ג.  $x^6 y^{10}$
- (3)  $n=16$
- (4) א. 2 ב.  $\frac{1}{3}$  ג.  $\frac{5}{8}$  ד. 40
- (5) א.  $a^8$  ב.  $c^{30}$  ג.  $x^{26}$  ד.  $b$  ה.  $n^3$  ו.  $d^{10}$   
 ז. 2 ח. 9 ט.  $8^{18}$  י.  $3^7$  יא. 3 יב.  $3^5$
- (6)  $n=2$
- (7) א. 6 ב. 9 ג. 56
- (8) א.  $3^{12}$  ב.  $2^{21}$  ג.  $5^{10}$  ד.  $2^{12}$  ה.  $2^7$  ו.  $3^{51}$
- (9) א.  $\frac{2b^3}{a}$  ב.  $k$  ג.  $3\frac{1}{5}$  ד.  $\frac{1}{x} + x$
- (10) א.  $a^6 b^3$  ב.  $m^{20} n^{15}$  ג.  $x^{36} y^9$  ד.  $\frac{a^{12}}{b^8}$  ה.  $\frac{i^{28}}{k^{21}}$  ו.  $a^{21} b^3$
- ז.  $x^{12} y^{18}$  ח.  $t^4 r^{12}$  ט.  $b^2 c^6$  ג. 8
- (11) א. 576 ב. 225 ג. 8
- (12) א.  $4^{-6}$  ב.  $5^{-3}$  ג.  $2^{-10}$  ד.  $2^{-3}$  ה.  $3^{-4}$  ו.  $5^{-3}$
- (13) א. 64 ב. 9 ג. 125
- (14) א. 81 ב. 8 ג. 5 ד.  $\frac{1}{9}$  ה. 1000 ו. 3
- (15) א.  $5^{24} \cdot 3^{12}$  ב.  $\frac{4^2}{3^{23}}$  ג.  $5^3 \cdot 2^4$
- (16) א.  $a^{1-5n}$  ב.  $k$  ג.  $m^{2n+12}$

## חוקי השורשים:

סיכום כללי:

סיכום חוקי השורשים:

$$\begin{array}{lll}
 \sqrt[n]{a^n} = a^{\frac{n}{n}} & .3 & \sqrt[n]{a} = a^{\frac{1}{n}} & .2 & \sqrt{a} = a^{\frac{1}{2}} & .1 \\
 \sqrt[n]{\sqrt[m]{a}} = \sqrt[m \cdot n]{a} & .6 & \frac{\sqrt[m]{a}}{\sqrt[m]{b}} = \sqrt[m]{\frac{a}{b}} & .5 & \sqrt[n]{a} \cdot \sqrt[n]{b} = \sqrt[n]{a \cdot b} & .4
 \end{array}$$

שאלות:

17) הבא את הביטויים הבאים לצורה:  $\sqrt[n]{a^m}$ .

$$\begin{array}{lll}
 \text{א. } 3^{\frac{1}{4}} & \text{ב. } 2^{\frac{3}{5}} & \text{ג. } 6^{\frac{5}{6}} \\
 \text{ד. } -12^{\frac{2}{7}} & \text{ה. } -(-4)^{\frac{1}{3}} & \text{ו. } -(-3)^{\frac{3}{4}} \\
 \text{ז. } 5^{-\frac{1}{4}} & \text{ח. } 27^{-\frac{1}{3}} & \text{ט. } 64^{-\frac{5}{6}}
 \end{array}$$

18) חשב ללא מחשבון את ערכם של הביטויים הבאים:

$$\begin{array}{lll}
 \text{א. } \sqrt{49} & \text{ב. } -\sqrt{25} & \text{ג. } \sqrt[3]{8} \\
 \text{ד. } -\sqrt[3]{128} & \text{ה. } \sqrt[3]{(-2)^6} & \text{ו. } (\sqrt[5]{1024})^2 \\
 \text{ז. } (\sqrt[5]{-243})^3 & \text{ח. } \sqrt[4]{-16} & \text{ט. } \sqrt[4]{-25^2} \\
 \text{י. } \sqrt[4]{(-25)^2} & &
 \end{array}$$

19) חשב ללא מחשבון את ערכם של הביטויים הבאים :

א. $8^{\frac{2}{3}}$	ב. $32^{\frac{3}{5}}$	ג. $128^{\frac{2}{7}}$
ד. $\left(\frac{1}{25}\right)^{-1.5}$	ה. $\left(2\frac{1}{4}\right)^{-2.5}$	ו. $\left(\frac{64}{343}\right)^{\frac{2}{3}}$
ז. $81^{\frac{3}{4}} \cdot 64^{\frac{1}{3}}$	ח. $343^{\frac{2}{3}} \cdot 100^{\frac{1}{2}}$	ט. $16^{\frac{1}{4}} \cdot 8^{\frac{1}{3}} \cdot 4^{\frac{1}{2}}$

20) חשב ללא מחשבון את ערך הביטוי הבא :  $\frac{\sqrt[5]{2^2} \cdot \sqrt{8}}{\sqrt[3]{128}}$

21) פשט את הביטויים הבאים :

א. $\sqrt{2} \cdot \sqrt{8}$	ב. $\sqrt{3} \cdot \sqrt{27}$	ג. $\sqrt{4} \cdot \sqrt{5} \cdot \sqrt{20}$
ד. $\frac{\sqrt{72}}{\sqrt{2}}$	ה. $\frac{\sqrt[3]{81}}{\sqrt[3]{3}}$	ו. $\frac{\sqrt[5]{96}}{\sqrt[5]{3}}$
ז. $\frac{\sqrt[5]{2^2} \cdot \sqrt{8}}{\sqrt[5]{128}}$	ח. $\frac{\sqrt[3]{500} \cdot \sqrt{5}}{\sqrt[4]{25^2} \cdot \sqrt[3]{4}}$	ט. $\frac{\sqrt[3]{8^2} \sqrt[4]{25}}{\sqrt[4]{400} \sqrt{2}}$

22) הכנס לתוך שורש את המספרים החופשיים :

א. $3\sqrt{2}$	ב. $5\sqrt{3}$	ג. $\frac{\sqrt{36}}{2}$
ד. $2\sqrt[3]{3}$	ה. $x\sqrt{x}$	

23) הכנס את כל המקדמים בביטויים הבאים לתוך השורש :

א. $2\sqrt{5}$	ב. $4\sqrt[3]{2}$	ג. $2\sqrt[5]{3}$
ד. $\frac{\sqrt{24}}{2}$	ה. $\frac{\sqrt[3]{24}}{2}$	ו. $\frac{3\sqrt[4]{5000}}{10}$
ז. $-5\sqrt[3]{2}$	ח. $-5\sqrt[4]{2}$	ט. $-5\sqrt[5]{-2}$

24) הוצא מהשורש את הכופל הגדול ביותר :

- א.  $\sqrt{12}$       ב.  $\sqrt{48}$       ג.  $\sqrt{63}$
- ד.  $\sqrt[3]{54}$       ה.  $\sqrt{x^5}$

25) חלץ מן הביטויים הבאים את המקדם הגבוה ביותר ככל הניתן :

- א.  $\sqrt{40}$       ב.  $\sqrt{50}$       ג.  $\sqrt{320}$
- ד.  $\sqrt[3]{108}$       ה.  $\sqrt[3]{56}$       ו.  $\sqrt[3]{160}$
- ז.  $\sqrt[4]{162}$       ח.  $\sqrt[5]{972}$       ט.  $\sqrt[9]{192}$

26) פשט את הביטויים הבאים :

- א.  $\sqrt{18} - \sqrt{8}$       ב.  $\sqrt{7} + \sqrt{63}$       ג.  $\sqrt[3]{16} + \sqrt[3]{128}$
- ד.  $\sqrt[4]{405} - \sqrt[4]{80}$       ה.  $\frac{20}{\sqrt{5}}$       ו.  $\frac{\sqrt{8}}{2}$
- ז.  $\frac{16}{\sqrt{2}}$       ח.  $\frac{6}{\sqrt{3} + \sqrt{12}}$       ט.  $\frac{10}{\sqrt[5]{160} - \sqrt[5]{5}}$

27) פשט את הביטויים הבאים :

- א.  $3^{\frac{1}{4}} \cdot 9^{-2.5} \cdot 27^{\frac{3}{2}}$       ב.  $2^{\frac{3}{4}} \cdot 16^{\frac{1}{2}} \cdot 64^{-3}$       ג.  $125^{\frac{1}{6}} \cdot 5^2 \cdot 5^{-\frac{2}{3}}$
- ד.  $\frac{27^{\frac{4}{3}} \cdot 3^{-\frac{2}{3}}}{9^{\frac{1}{6}}}$       ה.  $\frac{49^{\frac{2}{5}} \cdot 7^{-\frac{6}{5}}}{343^{\frac{1}{5}}}$       ו.  $\frac{512^{\frac{1}{4}} \cdot 64^{\frac{3}{4}}}{128^{\frac{1}{8}} \cdot 2^{-2}}$

## תשובות סופיות:

- (17) א.  $\sqrt[4]{3}$     ב.  $\sqrt[5]{2^3}$     ג.  $\sqrt[6]{6^5}$     ד.  $-\sqrt[7]{12^2}$     ה.  $-\sqrt[3]{-4}$     ו.  $\phi$
- ז.  $\frac{1}{\sqrt[4]{5}}$     ח.  $\frac{1}{\sqrt[3]{27}}$  או  $\frac{1}{3}$     ט.  $\frac{1}{\sqrt[6]{64^5}}$  או  $\frac{1}{2^5}$
- (18) א. 7    ב. -5    ג. 2    ד. -2    ה. 4    ו. 16
- ז. -27    ח.  $\phi$     ט.  $\phi$     י. 5
- (19) א. 4    ב.  $\frac{1}{8}$     ג.  $\frac{1}{4}$     ד. 125    ה.  $\frac{32}{243}$     ו.  $\frac{49}{16}$
- ז.  $\frac{27}{4}$     ח.  $\frac{10}{49}$     ט.  $\frac{1}{2}$
- (20)  $\sqrt{2}$
- (21) א. 4    ב. 9    ג. 20    ד. 6    ה. 3    ו. 2
- ז.  $\sqrt{2}$     ח.  $\sqrt{5}$     ט.  $\sqrt{2}$
- (22) א.  $\sqrt{18}$     ב.  $\sqrt{75}$     ג.  $\sqrt{9}$     ד.  $\sqrt[3]{24}$     ה.  $\sqrt{x^3}$
- (23) א.  $\sqrt{20}$     ב.  $\sqrt[3]{128}$     ג.  $\sqrt[5]{96}$     ד.  $\sqrt{6}$     ה.  $\sqrt[3]{3}$
- ו.  $\sqrt[4]{40 \frac{1}{2}}$     ז.  $\sqrt[3]{-250}$     ח.  $-\sqrt[4]{1250}$     ט.  $\sqrt[5]{5^5 \cdot 2}$
- (24) א.  $2\sqrt{3}$     ב.  $4\sqrt{3}$     ג.  $3\sqrt{7}$     ד.  $3\sqrt[3]{2}$     ה.  $x^2\sqrt{x}$
- (25) א.  $2\sqrt{10}$     ב.  $5\sqrt{2}$     ג.  $8\sqrt{5}$     ד.  $3\sqrt[3]{4}$     ה.  $2\sqrt[3]{7}$     ו.  $2\sqrt[5]{5}$
- ז.  $3\sqrt[4]{2}$     ח.  $3\sqrt[5]{4}$     ט.  $2\sqrt[6]{3}$
- (26) א.  $\sqrt{2}$     ב.  $4\sqrt{7}$     ג.  $6\sqrt[3]{2}$     ד.  $\sqrt[4]{5}$     ה.  $4\sqrt{5}$     ו.  $\sqrt{2}$
- ז.  $8\sqrt{2}$     ח.  $\frac{2}{\sqrt{3}}$  או  $\frac{2\sqrt{3}}{3}$     ט.  $\frac{10}{\sqrt[3]{5}}$  או  $2\sqrt[5]{5^4}$
- (27) א.  $\frac{1}{\sqrt[4]{3}}$     ב.  $\frac{1}{\sqrt[4]{2^{61}}}$     ג.  $\sqrt[6]{5^{11}}$     ד. 27    ה.  $\frac{1}{7}$     ו.  $\sqrt[8]{2^5}$

## כתיבה מדעית של מספרים:

### שאלות:

28) בטא את המספרים הבאים בכתיב מדעי:

א. 15,000,000	ב. 1,500,000
ג. 150,000,000,000	ד. 23,400,000
ה. 0.0003	ו. 0.00000042
ז. 0.000000042	ח. 0.00000000042

29) בטא את המספרים הבאים בכתיב מדעי:

א. $(3,000,000)^2$	ב. $(2,000,000)^2$
ג. $(5,000)^3$	ד. $(50,000)^3$
ה. $(0.0002)^4$	ו. $(0.00004)^3$
ז. $(0.000005)^3$	ח. $(0.000000007)^3$

### תשובות סופיות:

28) א. $1.5 \cdot 10^7$	ב. $1.5 \cdot 10^6$	ג. $1.5 \cdot 10^{11}$	ד. $2.34 \cdot 10^7$	ה. $3 \cdot 10^{-4}$
ו. $4.2 \cdot 10^{-7}$	ז. $4.2 \cdot 10^{-8}$	ח. $4.2 \cdot 10^{-10}$		
29) א. $9 \cdot 10^{12}$	ב. $4 \cdot 10^{12}$	ג. $1.25 \cdot 10^{11}$	ד. $1.25 \cdot 10^{14}$	ה. $1.6 \cdot 10^{-15}$
ו. $6.4 \cdot 10^{-14}$	ז. $1.25 \cdot 10^{-16}$	ח. $3.43 \cdot 10^{-25}$		

# מכינה למבחן פטור (חדוא 0)

פרק 5 - משוואות ואי-שוויונים מעריכיים

תוכן העניינים

95	1. משוואות מעריכיות יסודיות.....
97	2. משוואות עם חיבור וחסור איברים.....
99	3. משוואות בהן המשתנה גם בבסיס.....
100	4. משוואות מסכמות שונות.....
101	5. משוואות עם קבוע אוילר.....
102	6. מערכת משוואות מעריכיות.....
103	7. אי שוויונים מעריכיים.....
104	8. אי-שוויונים עם משתנה בבסיס ובמעריך.....

## משוואות מעריכיות יסודיות:

### סיכום כללי:

- פתרון כללי של משוואת מעריכית מהצורה:  $a^x = a^y$  הוא:  $x = y$ .
- פתרון של משוואה מהצורה:  $a^x = 1$  הוא:  $x = 0$  שכן:  $a^x = 1 = a^0$ .
- פתרון של משוואה מהצורה:  $a^x = b^x$  הוא:  $x = 0$  שכן:  $a^x = b^x = 1$  ללא תלות בבסיסים.

### שאלות:

1 פתור את המשוואות הבאות (שימוש בחוקי החזקות היסודיים):

א.  $2^x = 16$       ב.  $5^x \cdot 25^{x+2} = 125$

ג.  $10^{x-2} = 10000^{x+1}$       ד.  $9^x \cdot 3^{x^2} = 81^{3x-4}$

ה.  $(2^x \cdot 32)^3 = 8$       ו.  $(5^{x^2})^5 \cdot \frac{1}{5^5} = 625^{x-1}$

ז.  $\frac{7^x}{343^3} = 1$       ח.  $(25 \cdot 0.2^{2x})^2 = \left(\frac{1}{125}\right)^{1-x}$

2 פתור את המשוואות הבאות (הבסיס הוא שבר):

א.  $27 \cdot \left(\frac{3}{2}\right)^{5x+2} = 8$       ב.  $\left(\frac{3}{4}\right)^{2-x} \cdot \left(\frac{4}{3}\right)^{3x} = \left(\frac{9}{16}\right)^{7+x}$

ג.  $25 \left(\frac{7}{5}\right)^{x^2-2x} \cdot \left(\frac{5}{7}\right)^{4-x} = 49$

3 פתור את המשוואות הבאות (שימוש בחוקי השורשים):

א.  $\sqrt{27} \cdot \left(\frac{1}{3}\right)^{2x} = 9\sqrt{3}$       ב.  $\sqrt{3^{x+7}} = 81$

ג.  $(9\sqrt{27})^{3x} \cdot 3^{2-x} = \frac{1}{9}$       ד.  $\sqrt[3]{16} \cdot \left(\frac{1}{2^x}\right)^3 = \frac{1}{16}$

ה.  $2^{\sqrt{x}} \cdot \frac{1}{\sqrt{2^x}} = 8(\sqrt{8})^{-\sqrt{x}}$       ו.  $5^x \cdot \frac{1}{25^5} = 125^{\sqrt{x}}$

4) פתור את המשוואות הבאות (מכפלת בסיסים שונים):

א. $2^x = 7^x$	ב. $3^x \cdot \frac{625}{\sqrt{25^x}} = 81$
ג. $2^{3x} \cdot 5^{3x} = 1000000$	ד. $2^{x+1} \cdot 3^{x-2} \cdot 7^x = 392$
ה. $243 \cdot 2^{x-1} \cdot 18^{x-9} = \frac{1}{3^{x-2}}$	ו. $108 \cdot \frac{1}{2^{1-2x}} = 72^x \cdot \sqrt{0.5}$
ז. $2^{2x+2} \cdot 5^{x+1} = (2\sqrt{5})^{4-x}$	

### תשובות סופיות:

א. $x = 4$	ב. $x = -\frac{1}{3}$	ג. $x = -2$	ד. $x = 2, 8$	ה. $x = -4$
א. $x = 1, -\frac{1}{5}$	ב. $x = 9$	ה. $x = 1$		
א. $x = -1$	ב. $x = -2$	ג. $x = 3, -2$		
א. $x = -\frac{1}{2}$	ב. $x = 1$	ג. $x = -\frac{8}{19}$	ד. $x = 2, -\frac{2}{3}$	ה. $x = 4, 9$
א. $x = 0$	ב. $x = 4$	ג. $x = 2$	ד. $x = 2$	ה. $x = 5$
א. $x = 1.5$	ב. $x = \frac{2}{3}$			ו. $x = 25$

## משוואות עם חיבור וחסור איברים:

### סיכום כללי:

במשוואות הכוללות חיבור וחסור של איברים, נאתר את הבסיס עם המעריך הקטן ביותר ונסמן אותו ב- $t$ , למשל במשוואה:  $4^x - 3 \cdot 2^x = 4$  נסמן:  $2^x = t$ .  
 נבטא את כל איברים המשוואה באמצעות  $t$  ונפתור אותה עבורו.  
 לאחר מכן נחזיר את ההצבה למציאת ערכי ה- $x$  המתאימים.

### שאלות:

(1) פתור את המשוואות הבאות (משוואות יסודיות עם חיבור וחסור ממעלה ראשונה):

ב.  $8^x + 3 \cdot 8^x = 256$

א.  $2^x + 6 \cdot 2^x = 56$

ד.  $2 \cdot 6^x + 6^{x+2} - 6^{x-1} = 227$

ג.  $5 \cdot 3^x - 3^{x+1} = 162$

(2) פתור את המשוואות הבאות (משוואות כלליות עם חיבור וחסור ממעלה ראשונה):

ב.  $5^{3x+2} + 4 \cdot 125^x = 29$

א.  $81^{x+1} + 18 \cdot 3^{4x-3} = 735$

ד.  $\sqrt{10000^{x+1}} - \sqrt[4]{10^{8x+1}} = \sqrt[4]{1000} \cdot (\sqrt[4]{10^7} - 1)$

ג.  $(2^{3x+1})^2 - 64^{x-\frac{1}{3}} = 15$

ו.  $5^{-x} + 25^{\frac{1-x}{2}} - 5^{-x-1} = 145$

ה.  $6^{-x} - 5 \cdot 36^{-\left(\frac{x+1}{2}\right)} = 186$

ח.  $4^{x+2} - 6 \cdot 4^x = 7 \cdot 12^{x+1} + 6 \cdot 12^x$

ז.  $2 \cdot 10^{x+1} + 10^{x+2} = 3 \cdot 5^{x+1}$

(3) פתור את המשוואות הבאות (משוואות עם חיבור וחסור ממעלה שנייה):

ב.  $16^{x+1} - 65 \cdot 4^x + 4 = 0$

א.  $9^x - 36 \cdot 3^x + 243 = 0$

ד.  $4^{-x} - 3 \cdot 4^x + 2 = 0$

ג.  $6^x - 4 \cdot 6^{-x} + 3 = 0$

ו.  $\left(2^{\frac{1}{3}x+2}\right)^2 - 5 \cdot 2^{\frac{1}{3}x+1} + 1 = 0$

ה.  $\left(\frac{4}{9}\right)^x - \frac{5}{2} \cdot \left(\frac{3}{2}\right)^{-x-1} = -\frac{2}{3}$

(4) פתור את המשוואות הבאות (משוואות כלליות):

ב.  $\frac{7^x}{7^x-4} + \frac{8}{7^x+5} = 3$

א.  $\frac{20}{9^x+1} = 3 - \frac{8}{9^x-1}$

5) פתור את המשוואות הבאות (משוואות מסכמות):

א. $\frac{1}{25^{1-x}} - 6 \cdot 5^{x-1.5} + 1 = 0$	ב. $3^x - \sqrt{16 \cdot 3^{x+1}} = -9$
ג. $36^x - 6^{x+1} \cdot 3^x + 8 \cdot 9^x = 0$	ד. $4 \cdot 9^x - 10 \cdot 6^x + 6 \cdot 4^x = 0$
ה. $25 \cdot 5^{2x} + 16 \cdot 15^x = 9^{x+1}$	ו. $9^x + 4^x - 6^x = \frac{7}{6^{1-x}}$
ז. $\frac{8^{2x} - 8}{7} = 4^x - 2$	ח. $2^{3x} - 2^{2x+2} - 2^x + 4 = 0$

### תשובות סופיות:

א. $x=3$	ב. $x=2$	ג. $x=4$	ד. $x=1$	(1)
א. $x=\frac{1}{2}$	ב. $x=0$	ג. $x=\frac{1}{3}$	ד. $x=\frac{1}{4}$	(2)
ה. $x=-3$	ו. $x=-2$	ז. $x=-3$	ח. $x=-2$	(3)
א. $x=2,3$	ב. $x=1,-2$	ג. $x=0$	ד. $x=0$	(3)
ה. $x=0,1$	ו. $x=-6,-9$	ז. $x=1$	ח. $x=1$	(4)
א. $x=1, -\frac{1}{2}$	ב. $x=1$	ג. $x=1,2$	ד. $x=1,0$	(5)
א. $x=\frac{1}{2}, 1\frac{1}{2}$	ב. $x=1,3$	ג. $x=1,2$	ד. $x=1,0$	(5)
ה. $x=-2$	ו. $x=1,-1$	ז. $x=0, \frac{1}{2}$	ח. $x=0,2$	(5)

## משוואות בהן המשתנה גם בבסיס:

### סיכום כללי:

במשוואות עם משתנה בבסיס יש לדרוש תנאי עבורו הבסיס חיובי. יש לקחת את חיתוך תחומי ההגדרה (במידה וקיימים ביטויים עם שורשים או שברים) יחד עם תוצאת השוואת המעריכים.

### הערה:

יש לבדוק את ערכי ה- $x$  עבורם הבסיס שווה ל-1 ולראות האם מתקבל פסוק אמת או פסוק שקר. בהתאם יש להוסיף או להוריד אותו מתחום המספרים המהווים את פתרון המשוואה.

### שאלות:

פתור את המשוואות הבאות:

$$(\sqrt{3-x})^{\sqrt{x}} = (\sqrt[3]{3-x})^x \cdot \sqrt{\sqrt[3]{3-x}} \quad (1)$$

$$\left(1 + \frac{1}{x}\right)^{x^2+x} = 1 \quad (2)$$

$$\frac{|x-3|^{x^2-2}}{|x-3|^{x-1}} = |x-3|^{-1} \quad (3)$$

### תשובות סופיות:

$$x = \frac{1}{4}, 1, 2 \quad (1)$$

$$\text{אין פתרון.} \quad (2)$$

$$x = 0, 1, 2, 4 \quad (3)$$

## משוואות מסכמות שונות:

### שאלות:

פתור את המשוואות הבאות:

$$.5(2^x - 2) + 2 = 4^x - 2^x \quad (1)$$

$$\cdot \frac{6}{4^{x-1} - 1} + \frac{2^{x+1}}{2^x + 2} = \frac{2^x + 4}{2^x - 2} \quad (2)$$

$$\cdot \frac{4^x}{4^x - 10} - \frac{4}{2^{2x-1} - 3} = \frac{32}{16^x - 4^{x+2} + 60} \quad (3)$$

$$\cdot 3^{2x^2+2} - 3^{x^2+3} + 9 = 3^{x^2+1} \quad (4)$$

$$\cdot \sqrt{x}{10} = 4 \cdot \sqrt[2]{x}{10} + 60 \quad (5)$$

$$\cdot \sqrt[x-1]{8 \cdot 2^{x+1}} = (\sqrt{x}{2})^2 \cdot \sqrt[x-1]{x}{32} \quad (6)$$

$$\cdot 10 \cdot 4^{x+2} - 16 \cdot 10^x - 90 \cdot 6^x + 36 \cdot 15^x = 0 \quad (7)$$

### תשובות סופיות:

$$\cdot x = 1, 2 \quad (1)$$

$$\cdot x = 3 \quad (2)$$

$$\cdot x = 1.5 \quad (3)$$

$$\cdot x = 1, -1 \quad (4)$$

$$\cdot x = \frac{1}{2} \quad (5)$$

$$\cdot x = -3 \quad (6)$$

$$\cdot x = 1, -2 \quad (7)$$

## משוואות עם קבוע אוילר:

### סיכום כללי:

קבוע אוילר מסומן באות  $e$  וערכו שווה (בערך) ל-2.71828. למספר זה משמעויות רבות במתמטיקה ובמדעים ועל כן הוחלט לסמן אותו באות משלו ולשלב אותו במשוואות מתמטיות ועוד.

דרך הפתרון של משוואה שבה הבסיס הוא  $e$  זהה לחלוטין לשל משוואה מעריכית רגילה כפי שנלמד בפרק זה.

### שאלות:

(1) פתור את המשוואות הבאות (משוואות יסודיות עם קבוע אוילר):

$$\text{א. } e^{3x} = e^{2x-1} \quad \text{ב. } e^{5x-1} = e \cdot e^{6x+1}$$

$$\text{ג. } e^{x-5} = (e^{1-x})^3 \quad \text{ד. } e^x \cdot \sqrt{e^{3x-1}} = \left(\frac{1}{e^x}\right)^{1-3x}$$

(2) פתור את המשוואות הבאות (משוואות עם חיבור וחיסור):

$$\text{א. } e^2 \cdot e^x - e^{x+1} = e - 1 \quad \text{ב. } \sqrt[3]{e^{x+1}} \cdot e^2 = e^x \sqrt{e}$$

$$\text{ג. } e^{2x} + e^x - 2 = 0 \quad \text{ד. } e^{1+x} + e^{1-x} = e^2 + 1$$

(3) פתור את המשוואות הבאות (המשתנה גם בבסיס):

$$\text{א. } xe^x = \sqrt[4]{e} \cdot x \quad \text{ב. } e^{3x} = x \cdot e^{3x}$$

$$\text{ג. } xe^{x^2} = \frac{x}{\sqrt{e^x}} \quad \text{ד. } \sqrt[3]{e^{3x-1}} \cdot x = xe^x$$

### תשובות סופיות:

$$(1) \quad \text{א. } x = -1 \quad \text{ב. } x = -3 \quad \text{ג. } x = 2 \quad \text{ד. } x = 1, \frac{1}{6}$$

$$(2) \quad \text{א. } x = -1 \quad \text{ב. } x = \frac{11}{4} \quad \text{ג. } x = 0 \quad \text{ד. } x = 1, -1$$

$$(3) \quad \text{א. } x = 0, \frac{1}{4} \quad \text{ב. } x = 1 \quad \text{ג. } x = 0, -\frac{1}{2} \quad \text{ד. } x = 0$$

## מערכת משוואות מעריכיות:

שאלות:

$$(1) \quad \begin{cases} y = 3^x \\ y = 18 - 3^x \end{cases} \quad \text{פתור את מערכת המשוואות הבאה:}$$

$$(2) \quad \begin{cases} 5^{2x} - 5^y = 5^x - 25 \\ y - x = 2 \end{cases} \quad \text{פתור את מערכת המשוואות הבאה:}$$

$$(3) \quad \begin{cases} \frac{1}{3^y - 4} + \frac{3}{3^x - 2} - \frac{1}{3^x + 2} = 3 \\ 4^y = \sqrt{256^x} \end{cases} \quad \text{פתור את מערכת המשוואות הבאה:}$$

$$(4) \quad \begin{cases} 5^x + 2^y = 13 \\ 2 \cdot 5^x - 2^y = 2 \end{cases} \quad \text{פתור את מערכת המשוואות הבאה:}$$

$$(5) \quad \begin{cases} 2 \cdot 3^x - 3 \cdot 2^y = 42 \\ 3^{x+1} - 2^{y+1} = 73 \end{cases} \quad \text{פתור את מערכת המשוואות הבאה:}$$

$$(6) \quad \begin{cases} 5^{2x+1} + 8 \cdot 10^x - 2^{2y+4} = 0 \\ (\sqrt{3})^y = 27^{\frac{x-1}{6}} \end{cases} \quad \text{פתור את מערכת המשוואות הבאה:}$$

$$(7) \quad \begin{cases} 6 \cdot 4^x - 7 \cdot 6^{y-1} + 2 \cdot 3^{x+y} = 6^y \\ \sqrt[4]{5^x} \cdot \sqrt{(5\sqrt{5})^y} = \sqrt[4]{125} \cdot 5^x \end{cases} \quad \text{פתור את מערכת המשוואות הבאה:}$$

תשובות סופיות:

(1,3) <b>(4)</b>	(1,2) <b>(3)</b>	(0,2) , (2,4) <b>(2)</b>	(2,9) <b>(1)</b>
(1,2) , (-1,0) <b>(7)</b>	(-1,-2) <b>(6)</b>	(3,2) <b>(5)</b>	

## אי שוויונים מעריכיים:

### סיכום כללי:

פתרון אי-השוויון:  $a^x > a^y$  הוא:  $x > y$  עבור  $a > 1$  ו-  $x < y$  עבור  $0 < a < 1$ .

### שאלות:

פתור את אי השוויונים הבאים:

$$\sqrt{2^x} \leq 4^{x^2-1\frac{1}{4}} \quad (2)$$

$$3^{2x+1} < 27^{1-\frac{1}{3}x} \quad (1)$$

$$\left(\frac{1}{7}\right)^{5x} \geq \left(\frac{1}{7}\right)^{1-3x} \quad (4)$$

$$e^{\sqrt{x+1}} > e^{2x} \quad (3)$$

$$e^{2x} - 2e^x + 1 \leq 0 \quad (6)$$

$$25^x + 5 < 6 \cdot 5^x \quad (5)$$

### הערה:

השאלות הבאות דורשות הכרות עם מושג הלוגריתם הטבעי ( $\ln$ ) וכן חוקי הלוגריתמים אשר ילמדו בהמשך.

$$e^{2x} - 5e^x + 4 > 0 \quad (8)$$

$$e^x > 3 \quad (7)$$

### תשובות סופיות:

$$x \leq -1 \text{ או } x \geq 1\frac{1}{4} \quad (2)$$

$$x < \frac{2}{3} \quad (1)$$

$$x \leq \frac{1}{8} \quad (4)$$

$$0 \leq x < 1 \quad (3)$$

$$x = 0 \quad (6)$$

$$0 < x < 1 \quad (5)$$

$$x < 0 \text{ או } x > \ln 4 \quad (8)$$

$$x > \ln 3 \quad (7)$$

## אי-שוויונים עם משתנה בבסיס ובמעריך:

### סיכום כללי:

דרך הפתרון של אי שוויון עם משתנה בבסיס ובמעריך:

- יש לדרוש בסיס חיובי ולחבר אי-שוויון בהתאם.
- יש לפתור את אי השוויון לפי השוואת מעריכים.
- יש למצוא את חיתוך הפתרונות.

נתון:  $f(x)^{g(x)} > f(x)^{h(x)}$  נדרוש:  $f(x) > 0$ .

דרך הפתרון: אם  $f(x) > 1$  אז  $g(x) > h(x)$ .

אם  $0 < f(x) < 1$  אז  $g(x) < h(x)$ .

לבסוף נמצא את חיתוך התחומים.

### שאלות:

פתור את אי השוויונים הבאים:

$$(x-2)^{2x-5} < (x-2)^{x+1} \quad (2) \qquad x^{2x-1} > x^{x+2} \quad (1)$$

$$x^{2x^2+2} < x^{5x} \quad (4) \qquad x^{2x-6} < 1 \quad (3)$$

$$(x+1)^{|x|} < x^2 + 2x + 1 \quad (6) \qquad (x^2 - 6x + 13)^{x^2 - 2x} \geq (x^2 - 6x + 13)^3 \quad (5)$$

### תשובות סופיות:

$$.0 < x < 1, x > 3 \quad (1)$$

$$.3 < x < 6 \quad (2)$$

$$.1 < x < 3 \quad (3)$$

$$.0 < x < 0.5, 1 < x < 2 \quad (4)$$

$$.x \leq -1, x \geq 3 \quad (5)$$

$$.0 < x < 2 \quad (6)$$

# מכינה למבחן פטור (חדוא 0)

פרק 6 - חוקי הלוגריתמים, משוואות ואי-שוויונים לוגריתמים

תוכן העניינים

105	1. הגדרת הלוגריתם ומשוואות יסודיות
108	2. חוקי הלוגריתמים
112	3. חישובים עם חזקה לוגריתמית
113	4. מעבר בין בסיסים
115	5. הלוגריתם הטבעי
117	6. משוואות עם בסיסים שונים
118	7. מערכת משוואות לוגריתמיות
119	8. מערכת משוואות לוגריתמיות ומעריכיות
120	9. אי-שוויונים לוגריתמים

## הגדרת הלוגריתם ומשוואות יסודיות:

### סיכום כללי:

#### הגדרה:

הלוגריתם מוגדר באופן הבא:  $\log_a b = x \Leftrightarrow a^x = b$  כאשר:  $a, b > 0, a \neq 1$ .

#### הסבר:

לוגריתם על בסיס  $a$  של  $b$  מוגדר בתור החזקה שיש להעלות את  $a$  על מנת שיהיה שווה ל- $b$ .  
 ערך חזקה זו הוא  $x$ . ערך לוגריתם יכול להיות חיובי, שלילי או אפס. נחשב ערכי לוגריתמים  
 ונפתור משוואות לוגריתמיות ע"י מעבר לפי ההגדרה למשוואה מעריכית מתאימה.

### כללים יסודיים בלוגריתמים:

מהגדרת הלוגריתם נובע כי:  $\log_a a = 1$  וכן:  $\log_a 1 = 0$  לכל  $a > 0, a \neq 1$ .

### שאלות:

(1) חשב ללא מחשבון את ערכי הביטויים הלוגריתמים הבאים:

א.  $\log_2 32$       ב.  $\log 1000$       ג.  $\log_{25} 5$

ד.  $\log_8 4$       ה.  $\log_4 \frac{1}{16}$       ו.  $\log_a a^4$

ז.  $\log_a \frac{1}{a\sqrt{a}}$

(2) פתור את המשוואות הלוגריתמיות הבאות (יסודי - שימוש בהגדרת הלוג):

א.  $\log_{36} 6 = x$       ב.  $\log_2 x = 16$

ג.  $\log_{\frac{1}{9}} x = -1.5$       ד.  $\log_x 64 = 3$

ה.  $\log_x 25 = 2$       ו.  $\log_x (3x+4) = 2$

3) פתור את המשוואות הלוגריתמיות הבאות (כללי - שימוש בהגדרת הלוג):

$$\text{א. } \log_6(4x-2)=1 \quad \text{ב. } \log_4(4-x)=\frac{1}{2}$$

$$\text{ג. } \log_8(x^4-73)=1 \quad \text{ד. } \log_3 \frac{x+3}{3-3x} = -2$$

$$\text{ה. } \log_x(2x^2+x-12)=2 \quad \text{ו. } \log_{\sqrt{x+1}}(2x^2-5)=2$$

4) פתור את המשוואות הלוגריתמיות הבאות (שימוש בהגדרת הלוג מספר פעמים):

$$\text{א. } \log_4(\log_3 x)=1 \quad \text{ב. } 3\log_{27}(\log_2(x+3))=1$$

$$\text{ג. } \log_{\frac{1}{16}}(\log_3(5x^2+1))=-\frac{1}{2} \quad \text{ד. } \log_6(3+\log_2(6+\log_4(x^2+15)))=1$$

5) פתור את המשוואות הלוגריתמיות הבאות (מתקבלת משוואה מעריכית):

$$\text{א. } \log_2(3^x+37)=6 \quad \text{ב. } \log_3(3 \cdot 2^x-303)=4$$

$$\text{ג. } \log_5(126 \cdot 5^x-25)=2x+1 \quad \text{ד. } 3\log_2\left(3 \cdot 4^{1+\frac{1}{3}x}-11 \cdot 2^{\frac{x}{3}}+3\right)=12+2x$$

6) פתור את המשוואות הלוגריתמיות הבאות (הצבה):

$$\text{א. } (\log_2 x)^4=10000 \quad \text{ב. } 2(\log_3 x)^2+\log_3 x=10$$

$$\text{ג. } \frac{3 \cdot \log_{14} x+1}{(\log_{14} x)^2}=4 \quad \text{ד. } \sqrt{\log_{\frac{1}{81}} x}+\sqrt{\log_{\frac{1}{81}} x+2}=2$$

## תשובות סופיות:

- (1) א. 5    ב. 3    ג.  $\frac{1}{2}$     ד.  $\frac{2}{3}$     ה. -2
- ו. -1.5    ז. 4
- (2) א.  $x = \frac{1}{2}$     ב.  $x = 65,536$     ג.  $x = 27$     ד.  $x = 4$
- ה.  $x = 5$     ו.  $x = 4$
- (3) א.  $x = 2$     ב.  $x = 2$     ג.  $x = \pm 3$     ד.  $x = -2$     ה.  $x = 3$     ו.  $x = 2$
- (4) א.  $x = 81$     ב.  $x = 5$     ג.  $x = \pm 4$     ד.  $x = \pm 1$
- (5) א.  $x = 3$     ב.  $x = 7$     ג.  $x = -1, 2$     ד.  $x = -6$
- (6) א.  $x = 1024, \frac{1}{1024}$     ב.  $x = 9, \frac{1}{9\sqrt{3}}$
- ג.  $x = 14, \frac{1}{\sqrt[4]{14}}$     ד.  $x = \frac{1}{3}$

## חוקי הלוגריתמים:

### סיכום כללי:

- להלן 3 חוקי הלוגריתמים עבור בסיס  $a > 0 \neq 1$  וארגומנטים  $x$  ו- $y$  חיוביים:
- מכפלה לסכום:  $\log_a (x \cdot y) = \log_a x + \log_a y$ .
  - מנה להפרש:  $\log_a \left( \frac{x}{y} \right) = \log_a x - \log_a y$ .
  - מקדם למעריך:  $\log_a b^n = n \log_a b$  (כאשר  $b > 0$  ו- $n$  מספר ממשי כלשהו).

### שאלות:

#### שאלות חישוב כלליות:

(1) חשב ללא מחשבון את ערכי הביטויים הבאים (שימוש בחוקי הלוגים):

- |  |   |
|--|---|
| א. $\log_3 12 + \log_3 2.25$   | ב. $\log_{\frac{1}{5}} 40 + \log_{\frac{1}{5}} 12.5 + \log_{\frac{1}{5}} \frac{1}{4}$ |
| ג. $\log_2 200 - \log_2 100$   | ד. $\log_3 60 - \log_3 540$   |
| ה. $\log_4 8 + \log_4 12 - \log_4 6$   | ו. $\log_7 1.5 - \log_7 147 + \log_7 2$   |
| ז. $3 \log_5 2 - \log_5 1.6$   | ח. $\log_{\sqrt{4}} 6.4 + 2 \log_{\sqrt{4}} \sqrt{10}$                                |
| ט. $\frac{1}{2} \left( \log_7 \frac{7}{2} + \log_7 2 \right) + \log_7 14 - \frac{1}{3} \log_7 8$ | י. $\frac{1}{4} \log 81 - \log 1.5 - \frac{1}{2} \log 40$                             |

(2) חשב ללא מחשבון את ערכי הביטויים הבאים (שימוש בחוקי הלוגים):

- |   |  |
|---|--|
| א. $\frac{\log_5 16}{\log_5 8}$                             | ב. $\frac{\log_9 62.5 + \log_9 2}{\log_9 0.2}$                                   |
| ג. $\frac{\log_3 5 - \log_3 2 + \log_3 50}{\log_3 225 - 2}$ | ד. $\frac{2 - 2 \log_3 4 + \log_3 8 \frac{8}{9}}{4 - \log_3 0.01 - 2 \log_3 18}$ |

## משוואות לוגריתמיות:

(3) פתור את המשוואות הבאות (שימוש ישיר בחוקי הלוגריתמים):

א.  $\log_2 x + \log_2 (x-6) = 4$       ב.  $\log_3 x + \log_3 (x+2) = 1$

ג.  $\log_2 (x+30) - \log_2 x = 4$       ד.  $\log_5 (x+146) - \log_5 (x+2) = 2$

ה.  $2\log_3 (2x-1) - \log_3 (22x+9) = -1$

ו.  $2\log_5 (x-2) = \log_5 (4x-15) + \log_5 x$

(4) פתור את המשוואות הבאות (פתרון בשיטת לוג שווה לוג):

א.  $\log_5 (4x-3) = \log_5 7$

ב.  $2\log_2 (2x-2) - \log_2 (16-x) = \log_2 (x-1) + 1$

(5) פתור את המשוואות הבאות (מתקבלת משוואה מעריכית):

א.  $\log_3 (3 \cdot 5^x + 39) = 3 + \log_3 (5^x - 3)$

ב.  $\log_2 (3 - 4^{x+1}) - \log_2 11 = x$

(6) פתור את המשוואות הבאות (שימוש הפוך בחוקי הלוגריתמים):

א.  $\log_4 x \cdot \log_4 (16x) = 8$

ב.  $\log_2 \left(\frac{x}{4}\right) \cdot \log_2 (1024x) = -11$

ג.  $\log_2 x^2 \log_2 \left(\frac{x}{16}\right) = -\log_2 (64x)$

ד.  $(\log_4 4x)^2 = \log_4 4x^2 + 1$

ה.  $\log_3 (9x^2) \cdot \log_3 (9x^3) = \log_3 \left(\frac{81}{x}\right) + 2$

ו.  $\frac{\log_2 \left(\frac{x^3}{32}\right)}{(\log_2 x)^2} + \frac{\log_2 (2x)}{\log_2 x} = 1\frac{7}{9}$

## שאלות הבעה:

(7) נתון:  $\log_3 2 = a$ . הבע באמצעות  $a$  את ערכי הביטויים הבאים:

א.  $\log_3 16$       ב.  $\log_3 6$

ג.  $\log_3 24$       ד.  $\log_3 1.5$

(8) נתון:  $\log_2 5 = b$ ,  $\log_2 3 = a$ . הבע באמצעות  $a$  ו- $b$  את ערכי הביטויים הבאים:

א.  $\log_2 45$       ב.  $\log_2 60$       ג.  $\log_2 \sqrt{7.5}$

(9) נתון:  $\log_{18} 2 + \log_{18} 3 = a$ .

הבע באמצעות  $a$  את  $\log_{18} 27$  ואת  $\log_{18} 16$ .

## שאלות נוספות:

בכל אחת מהמשוואות הבאות, חשב את ערך הביטוי שמשמאל וקבל את התוצאה מימין:

$$\log 4 \log 40 + \log 5 \log 16 = \log 64 \quad (10)$$

$$2 \log^2 2 + \log 25 \cdot \log 20 = 2 \quad (11)$$

$$\log_{12} 16 \cdot \log_{12} 4 + \log_{12} 9 \cdot \log_{12} 48 = 2 \quad (12)$$

$$\log_5 10 \cdot \log_5 75 - \log_5 3 \cdot \log_5 2 - \log_5 3 - \log_5 4 = 2 \quad (13)$$

## תשובות סופיות:

- (1) א. 3    ב. -3    ג. 1    ד. -2    ה. 2    ו. -0.5  
 ג. 6    ו. 1
- (2) א.  $\frac{4}{3}$     ב. -3    ג. 1.5    ד. 0.5
- (3) א.  $x=8$     ב.  $x=3, \frac{1}{27}$     ג.  $x=2$     ד.  $x=4$     ה.  $x=3$     ו.  $x=4$
- (4) א.  $x=2.5$     ב.  $x=6$
- (5) א.  $x=1$     ב.  $x=-2$
- (6) א.  $x=16, \frac{1}{256}$     ב.  $x=2, \frac{1}{512}$     ג.  $x=4, 2\sqrt{2}$     ד.  $x=4, \frac{1}{4}$     ה.  $x=\frac{1}{9}, \sqrt[9]{3}$     ו.  $x=8, \sqrt[7]{2^{15}}$
- (7) א.  $4a$     ב.  $a+1$     ג.  $3a+1$     ד.  $1-a$
- (8) א.  $2a+b$     ב.  $2+a+b$     ג.  $\frac{1}{2}a + \frac{1}{2}b - \frac{1}{2}$
- (9)  $4(2a-1), 3(1-a)$
- (10) הוכחה.
- (11) הוכחה.
- (12) הוכחה.
- (13) הוכחה.

## חישובים עם חזקה לוגריתמית:

### סיכום כללי:

מהגדרת הלוגריתם ניתן לנסח את הקשר הבא:  $a^{\log_a x} = x$  כאשר  $a > 0 \neq 1$ .

### שאלות:

(1) חשב ללא מחשבון את ערכי הביטויים הבאים (חזקה לוגריתמית):

א.  $6^{\log_6 8}$       ב.  $4^{\log_2 5}$

(2) נתונה התבנית:  $3 \cdot 4^x$ . חשב את ערכה עבור:

א.  $x = \log_4 7$       ב.  $x = \log_4 \sqrt{3}$

ג.  $x = 2 \log_4 0.1$       ד.  $x = \sqrt{\log_2 5}$

(3) נתונה התבנית:  $\frac{1}{6} \cdot 9^x - 2 \cdot 3^x + 1$ . חשב את ערכה עבור:

א.  $x = -1$       ב.  $x = \log_3 5$

ג.  $x = \log_3 \sqrt{6}$

(4) חשב:

א.  $\left(\frac{1}{6}\right)^{\log_{\sqrt{56}} 81}$       ב.  $\sqrt[3]{2^{3-\log_{\sqrt{8}} 5}}$

### תשובות סופיות:

(1) א. 8      ב. 25

(2) א. 21      ב.  $3\sqrt{3}$       ג. 0.03      ד. 15

(3) א.  $\frac{19}{54}$       ב.  $-4\frac{5}{6}$       ג.  $2-2\sqrt{6}$

(4) א.  $\frac{1}{81}$       ב.  $\frac{2}{\sqrt[2]{25}}$

## מעבר בין בסיסים:

### סיכום כללי:

מעבר מבסיס  $a$  לבסיס  $m$  (כאשר:  $a > 0 \neq 1$  ו-  $m > 0 \neq 1$ , וכן:  $b > 0$ )

$$\log_a b = \frac{\log_m b}{\log_m a}$$

יתבצע באופן הבא:

### שאלות:

#### שאלות חישוב כלליות:

(1) חשב את ערכי הביטויים הבאים:

ב.  $\log_{0.1} 3 \cdot \log_9 1000$

א.  $\log_4 7 \cdot \log_7 4$

ד.  $\log_4 169 \cdot \log_{25} 64 \cdot \log_{13} 625$

ג.  $\log_{\sqrt{3}} 5 \cdot \log_{\sqrt{125}} 9$

(2) הוכח את השוויונים הבאים:

א.  $\log_2 25 \cdot \log_5 3 \cdot \log_9 2 = 1$

ב.  $\log_{16} 9 \cdot \log_5 4 \cdot \log_3 5 = 1$

#### משוואות לוגריתמיות:

(3) פתור את המשוואות הבאות:

ב.  $\log_3 x \cdot \log_{27} x = 3$

א.  $\log_2 x + \log_{32} x = 6$

ד.  $\log_x 5 - 6 \log_{125} x = 1$

ג.  $\log_2 4x \cdot \log_8 \frac{x}{16} = -\frac{5}{3}$

### שאלות הבעה:

(4) נתון:  $\log_4 6 = a$ . הבע באמצעות  $a$  את ערכי הביטויים הבאים:

ג.  $\log_{216} 96$

ב.  $\log_{32} 36$

א.  $\log_2 3$

(5) נתון:  $\log_2 3 = a$ ,  $\log_3 5 = b$ . הבע באמצעות  $a$  ו-  $b$  את ערכי הביטויים הבאים:

ג.  $\log_5 22.5$

ב.  $\log_2 \sqrt{30}$

א.  $\log_3 50$

6 נתון  $\log_3 7 = a$ ,  $\log 9 = 2b$ . הבע באמצעות  $a$  ו- $b$  את:

א.  $\log 21$ .

ב.  $\log_3 \left( \frac{10}{7} \right)$ .

ג.  $\log_7 10$ .

ד.  $\log_{30} 63$ .

**שאלות נוספות:**

בכל אחת מהמשוואות הבאות, חשב את ערך הביטוי שמשמאל וקבל את התוצאה מימין:

7  $\log_6 9 \cdot \log_{15} 30 + \log_6 5 \cdot \log_{15} 4 = 2$

8  $\log \sqrt{3} \cdot \log_6 50 + \log \sqrt{2} \cdot \log_6 300 = 1$

**תשובות סופיות:**

1 א. 1      ב. -1.5      ג.  $2\frac{2}{3}$       ד. 12.

2 א. שאלת הוכחה.      ב. שאלת הוכחה.

3 א.  $x = 32$       ב.  $x = 27, \frac{1}{27}$       ג.  $x = 8, \frac{1}{2}$       ד.  $x = \frac{1}{5}, \sqrt{5}$ .

4 א.  $2a - 1$       ב.  $0.8a$       ג.  $\frac{a+2}{3a}$ .

5 א.  $2b + \frac{1}{a}$       ב.  $\frac{a}{2} + \frac{ab}{2} + \frac{1}{2}$       ג.  $\frac{2}{b} + 1 - \frac{1}{ab}$ .

6 א.  $b + ab$       ב.  $\frac{1}{b} - a$       ג.  $\frac{1}{ab}$       ד.  $\frac{ab+2b}{b+1}$ .

7 הוכחה.

8 הוכחה.

## הלוגריתם הטבעי:

### סיכום כללי:

לוגריתם על בסיס  $e$  (קבוע אוילר) מסומן:  $\log_e \Rightarrow \ln$  והוא נקרא הלוגריתם הטבעי. למשל:  $\ln 3 = \log_e 3$  או  $\ln \frac{1}{4} = \log_e \frac{1}{4}$ . לוג זה נקרא בשם לן. מהגדרת הלוגריתם מתקיים:  $\ln a = b \rightarrow e^b = a$  כאשר  $a > 0$  ו- $b$  מספרים כלשהם.

### שאלות:

(1) חשב ללא מחשבון את ערכי הביטויים הלוגריתמיים הטבעיים הבאים:

$$\text{א. } \ln e^2 \quad \text{ב. } \ln \frac{1}{e^4} \quad \text{ג. } \ln \frac{1}{e\sqrt{e}}$$

(2) פתור את המשוואות הלוגריתמיות הבאות (שימוש בהגדרת הלוג):

$$\text{א. } \ln x = 2 \quad \text{ב. } \ln x = -\frac{1}{2}$$

(3) פתור את המשוואות הבאות (הצבה וחוקי הלוגריתמים):

$$\begin{aligned} \text{א. } \ln\left(e^{2x} - \frac{1}{2}\right) + \ln 2 = x \\ \text{ב. } 3 \ln^2 x + \ln x = 2 \\ \text{ג. } \ln(e^2 x^3) \cdot \ln \frac{1}{x} = \ln(ex^2) \end{aligned}$$

(4) פתור את המשוואות הלוגריתמיות הבאות (הוצאת לוג משני אגפי המשוואה)

$$\text{א. } x^{\ln x} = e^6 x \quad \text{ב. } \left(\frac{1}{x}\right)^{2-3 \ln x} = \frac{1}{e} \cdot x^{1+\ln x}$$

(5) חשב ללא מחשבון את ערכי הביטויים הבאים (חזקה לוגריתמית):

$$\text{א. } e^{\ln 3} \quad \text{ב. } e^{2 \ln 3}$$

## תשובות סופיות:

$$(1) \quad \text{א. } 2 \quad \text{ב. } -4 \quad \text{ג. } -1.5$$

$$(2) \quad \text{א. } x = e^2 \quad \text{ב. } x = \frac{1}{\sqrt{e}}$$

$$(3) \quad \text{א. } x = 0 \quad \text{ב. } x = \sqrt[3]{e^2}, \frac{1}{e} \quad \text{ג. } x = \frac{1}{\sqrt[3]{e}}, \frac{1}{e}$$

$$(4) \quad \text{א. } x = e^3, \frac{1}{e^2} \quad \text{ב. } x = \sqrt{e}, e$$

$$(5) \quad \text{א. } 3 \quad \text{ב. } 9$$

## משוואות עם בסיסים שונים:

### סיכום כללי:

לעיתים תתקבל משוואה מעריכית שבה לא ניתן למצוא חזקה שלמה, כגון:  $3^x = 4$ . במקרים אלו נעזר בהגדרת הלוג כדי לבטא את ערך המעריך:  $x = \log_3 4$ . את ערך הביטוי  $\log_3 4$  ניתן לחשב ע"י מחשבון או ע"י מעבר לבסיס 10:  $\log_3 4 = \frac{\log 4}{\log 3}$ .

### שאלות:

(1) פתור את המשוואות הבאות (בסיסים שונים):

א.  $3^x = 6$       ב.  $2^x - 9 = 0$

ג.  $49^x - 8 \cdot 7^x + 15 = 0$       ד.  $2 \cdot 3^{\frac{2x}{3}} + 5 \cdot 3^{\frac{x}{3}} + 2 = 0$

(2) פתור את המשוואות הבאות (משוואות עם בסיס ולוגריתם טבעי):

א.  $e^{3x} = 3$       ב.  $4 + 3e^x = 9$

ג.  $3e^{2x} - 4e^x + 1 = 0$       ד.  $e(e^x + 1) = 2\sqrt{e^{x+2}} + 9e$

(3) פתור את המשוואות הבאות (משוואות כלליות עם פתרונות לא שלמים):

א.  $\log_2(7 - 5^x) = \log_2 \frac{10}{5^x}$       ב.  $\log_2(4e^{2x} + 6) - 1 = \log_2(7e^x)$

### תשובות סופיות:

(1) א.  $x = \log_3 6 = 1.63$       ב.  $x = \log_2 9 = 3.17$

ג.  $x = \log_7 3 = 0.564$ ,  $x = \log_7 5 = 0.827$       ד. אין פתרון.

(2) א.  $x = \frac{1}{3} \ln 3 = 0.36$       ב.  $x = \ln \frac{5}{3} = 0.51$       ג.  $x = 0$ ,  $x = -\ln 3 = -1.09$

ד.  $x = \ln 16 = 2.7725$

(3) א.  $x = 1$ ,  $x = \log_5 2 = 0.43$       ב.  $x_1 = \ln \frac{1}{2} = -0.693$ ,  $x = \ln 3 = 1.098$

## מערכת משוואות לוגריתמיות:

### שאלות:

פתור את מערכות המשוואות הבאות:

$$\begin{cases} \log_6^2 x - \log_6(2y-2) = 2 \\ \frac{1}{2}x = y-1 \end{cases} \quad (2) \qquad \begin{cases} y = \log_2 x \\ y = 6 - \log_2 x \end{cases} \quad (1)$$

$$\begin{cases} \log_3(x+y) = \log_3(4x+y) - 2 \\ \log_5(5x+3y) = 2 \end{cases} \quad (3)$$

$$\begin{cases} \log_2(\log_3(x-y)) = 1 \\ \log_5(x+y-11) = \log_{25} x + \frac{1}{2}\log_5(y+2) \end{cases} \quad (4)$$

$$\begin{cases} \log_2 x^2 + \log_3 \frac{1}{y} = 9 \\ \log_2 \sqrt{x} + \log_{\sqrt[3]{3}} y = -1 \end{cases} \quad (6) \qquad \begin{cases} \log_5 x + 6\log_4 y = 11 \\ 10\log_5 x - 2\log_4 y = 17 \end{cases} \quad (5)$$

$$\begin{cases} xy = 27 \\ x^{\log_3 y} = 9 \end{cases} \quad (8) \qquad \begin{cases} \log_5 x + 2^{\log_2 y} = 6 \\ x^y = 5^8 \end{cases} \quad (7)$$

$$\begin{cases} 2^{\frac{\log_1(2x-y)}{2}} = 7^{\log_7 \frac{2x+y}{15}} \\ \log_3 x + \log_3 y = \frac{1}{\log_{28} 3} \end{cases} \quad (9)$$

### תשובות סופיות:

$$\begin{array}{lll} (8, -5) \quad (3) & (36, 19), \left(\frac{1}{6}, 1\frac{1}{12}\right) \quad (2) & (8, 3) \quad (1) \\ \left(16, \frac{1}{3}\right) \quad (6) & (25, 8) \quad (5) & (16, 7) \quad (4) \\ (4, 7) \quad (9) & (3, 9), (9, 3) \quad (8) & (25, 4), (625, 2) \quad (7) \end{array}$$

## מערכת משוואות לוגריתמיות ומעריכיות:

### שאלות:

פתור את מערכות המשוואות הבאות:

$$\begin{cases} 25^y = (5\sqrt{5})^{x+1} \\ \log_5 \sqrt{x} + \log_5 \sqrt{y} = \log_5 3 \end{cases} \quad (2) \quad \begin{cases} y = \log_2(4^x - 2) \\ y = 2x - 1 \end{cases} \quad (1)$$

$$\begin{cases} x \cdot \log_2 3 = \frac{y}{\log_9 2} \\ \log_3(9^x + 27) = 2y + \log_3 12 \end{cases} \quad (4) \quad \begin{cases} 3y + 5 \log_6 x = 1 \\ 216 \cdot x^{2-y} = 6^{1-4y} \end{cases} \quad (3)$$

$$\begin{cases} x = \log_4(5 - 9^y) \\ \log_2(2^x + 3) = \log_4(29 - (3^y - 3)^2) \end{cases} \quad (6) \quad \begin{cases} (2^x - 1)^2 - 4y + 3 = 0 \\ x = \log_2(y + 1) \end{cases} \quad (5)$$

### תשובות סופיות:

$$(36, -3), \left(6, -1\frac{1}{3}\right) \quad (3) \quad (3, 3) \quad (2) \quad (1, 1) \quad (1)$$

$$(1, 0) \quad (6) \quad (1, 1), (2, 3) \quad (5) \quad \left(1, \frac{1}{2}\right), (2, 1) \quad (4)$$

## אי-שוויונים לוגריתמים:

### סיכום כללי:

פתרון אי-השוויון:  $\log_a x > \log_a y$  הוא:  $x > y$  עבור:  $a > 1$  ו-  $x < y$  עבור:  $0 < a < 1$ .

### שאלות:

פתור את אי-השוויונים הבאים:

$\log_6(x^2 - 5x) < 1$ (2)	$\log_2 x < \log_2(5x - 20)$ (1)
$\log_{\frac{1}{2}}(1 - 3x) \geq \log_{\frac{1}{2}}(7 - x)$ (4)	$\log_3 x > \log_9(15 - 2x)$ (3)
$\ln x < 3$ (6)	$\ln x \geq \ln(x^2 - 12)$ (5)
$\frac{6}{\ln^2 x} \geq 2 - \frac{1}{\ln x}$ (8)	$\ln^2 x - 6 \ln x < 7$ (7)

### תשובות סופיות:

$-1 < x < 0, 5 < x < 6$ (2)	$x > 5$ (1)
$-3 \leq x \leq \frac{1}{3}$ (4)	$3 < x < 7\frac{1}{2}$ (3)
$0 < x < e^3$ (6)	$2\sqrt{3} < x \leq 4$ (5)
וגם $x \neq 1$ $\frac{1}{\sqrt{e^3}} \leq x \leq e^2$ (8)	$\frac{1}{e} < x < e^7$ (7)

# מכינה למבחן פטור (חדוא 0)

פרק 7 - סדרות

תוכן העניינים

121	1. הקדמה כללית
128	2. סדרה חשבונית
133	3. סדרה הנדסית
135	4. סדרות מעורבות
141	5. סדרה הנדסית אינסופית מתכנסת
	6. סדרת נסיגה

## סדרה חשבונית:

### סיכום כללי:

- נוסחת האיבר הכללי:

נוסחת האיבר הכללי של סדרה חשבונית המתחילה באיבר  $a_1$  והפרשה הוא  $d$  נתונה ע"י:  $a_n = a_1 + d(n-1)$ , כאשר:  $n$  הוא מיקום האיבר שערכו  $a_n$  בסדרה.

- כלל נסיגה של סדרה חשבונית:

כלל נסיגה של סדרה חשבונית  $a_n$  שהפרשה הוא  $d$  ואיברה הראשון הוא  $a_1$  נתון ע"י:  $a_{n+1} - a_n = d$ .

- נוסחת הסכום של סדרה חשבונית:

סכום  $n$  האיברים הראשונים של סדרה חשבונית  $a_n$  שהפרשה הוא  $d$  ואיברה

הראשון הוא  $a_1$  נתון ע"י:  $S_n = \frac{n(a_1 + a_n)}{2}$ .

בהצבת נוסחת האיבר הכללי מקבלים:  $S_n = \frac{n(2a_1 + d(n-1))}{2}$ .

### שאלות:

- (1) נתונה הסדרה החשבונית:  $17, 11, 5, -1, -7, \dots$ . מצא את האיבר האחרון בסדרה אם ידוע שיש בה 43 איברים.
- (2) בסדרה חשבונית האיבר השישי הוא 15 והאיבר העשירי הוא 31. מצא מהו האיבר הראשון בסדרה ומהו הפרש הסדרה.
- (3) מצא כמה איברים יש בסדרה החשבונית:  $2, 4.5, 7, 9.5, 12, 14.5, \dots, 49.5$ .

- (4) בסדרה חשבונית סכום האיברים השני, החמישי והשמיני הוא 87 וההפרש בין האיבר השנים-עשר לאיבר השישי הוא 24. מצא כמה איברים בסדרה אם ידוע שהאיבר האחרון בה הוא 201.
- (5) תחביב אחה"צ של שימי הפרעוש הוא לקפוץ על טומי הכלב. מנהגו של שימי הוא לקפוץ בדקה הראשונה 4 קפיצות ובכל דקה שאחריה לקפוץ 3 קפיצות יותר מדקה הקודמת. כמה דקות אורך תחביב אחה"צ של שימי אם ידוע שבדקה האחרונה הוא קופץ 46 קפיצות?
- (6) כמה מספרים תלת ספרתיים שמתחלקים ב-6 יש בין 201 ל-550?
- (7) כמה איברים חיוביים ישנם בסדרה החשבונית:  $91, 88, 85, 82, \dots$ .
- (8) מצא את ערכו של  $x$  אם ידוע שהאיברים הבאים הם איברים עוקבים בסדרה חשבונית:  $x-3, 3x-4, x^2-1$ .
- (9) נתונה סדרה המוגדרת באמצעות כלל הנסיגה הבא: 
$$\begin{cases} a_{n+1} = a_n + 3 \\ a_1 = 5 \end{cases}$$
 הוכח שהסדרה חשבונית ומצא מהו האיבר התשעה-עשר שלה.
- (10) בסדרה חשבונית  $a_1, a_2, a_3, \dots, a_n$  ידוע כי סכום ארבעת האיברים הראשונים וסכום האיברים ה-6 עד ה-9 הם מספרים נגדיים.
- א. הוכח:  $a_5 = 0$ .
- ב. נתון:  $a_3 - a_{11} = 24$ . מצא את  $a_1$  ואת  $d$ .
- ג. מגדירים סדרה חשבונית חדשה  $b_n$  המקיימת:  $b_n = 2a_n - 3$ . מצא את ערך האיבר השלילי הראשון בסדרה ואת מיקומו הסידורי.
- (11) מצא את סכום ארבעה-עשר האיברים הראשונים בסדרה החשבונית:  $-3, 2, 7, 12, \dots$ .

- (12) נתונה הסדרה החשבונית :  $-13, -7, -1, 5, \dots$ .  
 כמה איברים יש לחבר בסדרה (החל מהראשון) כדי להגיע לסכום של 987?
- (13) תחביב אחה"צ של מימי הפרעושה הוא לקפוץ על טומי הכלב. מנהגה של מימי הוא לקפוץ בדקה הראשונה 11 קפיצות ובכל דקה שאחריה לקפוץ 2 קפיצות יותר מדקה הקודמת. כמה דקות אורך תחביב אחה"צ של מימי אם ידוע שבכל אחה"צ היא קפצה 416 קפיצות?
- (14) נתונה הסדרה החשבונית :  $-71, -67, -63, \dots$ .  
 כמה איברים לכל הפחות יש לחבר בסדרה כדי שהסכום המתקבל יהיה חיובי?
- (15) נתונה הסדרה החשבונית :  $4, 13, 22, 31, \dots$ .  
 בסדרה יש 36 איברים. חשב את סכום ארבעה-עשר האיברים האחרונים בסדרה.
- (16) נתונה הסדרה החשבונית :  $4, 9, 14, 19, \dots, 599$ .  
 מחקו כל איבר שלישי בסדרה. מצא את סכום האיברים שנותרו.
- (17) סכום  $n$  האיברים האחרונים בסדרה חשבונית בת  $3n$  איברים גדול ב-1024 מסכום  $n$  האיברים הראשונים שבה.  
 א. בטא את  $n$  באמצעות הפרש הסדרה,  $d$ .  
 ב. נתון כי הפרש הסדרה הוא 8. כמה איברים בסדרה?
- (18) נתונה סדרה שבה  $S_n = 2n^2 + 4n$ .  
 א. מצא את ערכם של שלושת האיברים הראשונים בסדרה.  
 ב. הוכח כי הסדרה חשבונית ומצא את הפרשה.
- (19) בסדרה חשבונית ידוע כי סכום האיברים העומדים במקומות ה-5, ה-7, וה-16 הוא אפס. כמו כן ידוע כי סכום שלושת האיברים הראשונים הוא 132.  
 א. מצא את האיבר הראשון בסדרה ואת הפרש הסדרה.  
 ב. מצא את האיבר השלילי הראשון בסדרה.  
 ג. מצא כמה איברים יש לחבר (החל מהאיבר הראשון) כדי לקבל סכום 210.

$$(20) \quad \left\{ \begin{array}{l} 150, 144, 138, \dots \\ 90, 93, 96, \dots \end{array} \right. : \text{נתונים שני טורים חשבוניים}$$

לשני הטורים אותו מספר איברים. ידוע כי סכום האיברים האחרונים של שני הטורים (האיבר האחרון מהטור הראשון והאיבר אחרון מהטור השני) הוא אפס.

א. מצא את מספר האיברים שבכל טור.

ב. מחברים את  $n$  האיברים הראשונים מהטור הראשון יחד עם  $n$  האיברים הראשונים מהטור השני. ידוע כי חיבור הסכומים הוא 3480. מצא את  $n$  אם ידוע שהוא קטן מ-20.

(21) נתונות שתי סדרות החשבוניות הבאות:  $a_n$  שהפרשה הוא  $d_1$  ו- $b_n$  שהפרשה

$$\text{הוא } d_2. \text{ ידוע כי: } d_1 = -2d_2.$$

סכום 50 האיברים הראשונים של שתי הסדרות שווה והאיבר העומד במקום ה-20 בסדרה  $a_n$  גדול ב-1 מהאיבר העומד במקום ה-37 בסדרה  $b_n$ .

א. מצא את הפרש הסדרה  $a_n - d_1$ .

ב. ידוע כי האיבר  $a_{10}$  קטן ב-1 מ-5 פעמים האיבר  $b_{50}$ .

מצא את  $a_1$  ואת  $b_1$ .

(22) נתונה הסדרה החשבונית:  $\dots, -13, -17, -21, \dots$

בסדרה יש 18 איברים. חשב את סכום האיברים הנמצאים במקומות האי-זוגיים ואת סכום האיברים הנמצאים במקומות הזוגיים.

(23) בסדרה חשבונית שהפרשה  $d$  ובה  $2n$  איברים סכום האיברים במקומות

האי-זוגיים הוא 552 וסכום האיברים במקומות הזוגיים הוא 612.

$$\text{הוכח כי } nd = 60.$$

(24) בסדרה חשבונית עולה, שכל איבריה חיוביים ובה מספר אי-זוגי של איברים,

גדול סכום כל איברי הסדרה פי  $1\frac{14}{15}$  מסכום איברי הסדרה הנמצאים

במקומות האי-זוגיים. כמה איברים יש בסדרה?

- (25)** לפניך שלושה איברים סמוכים בסדרה חשבונית:  $x-5$ ,  $x-16$ ,  $2x+23$ .
- א. ענה על הסעיפים הבאים:
- מצא את  $x$ .
  - מצא את הפרש הסדרה.
- ב. ידוע כי:  $a_{12} = 0$ . מצא את  $a_1$ .
- ג. האיבר האחרון בסדרה הוא:  $a_n = 308$ .
- מצא את סכום כל האיברים החיוביים העומדים במקומות האי-זוגיים.

- (26)** בסדרה חשבונית שבה מספר זוגי של איברים נתון כי סכום ריבועי האיברים העומדים במקומות ה-4 וה-5 שווה לריבוע האיבר העומד במקום ה-6. האיבר הראשון אינו אפס.
- א. הוכח את הטענות הבאות:
- $a_1 = -4d$
  - $S_9 = 0$
- ב. האיבר העומד במקום ה-6 גדול ב-2 מהאיבר העומד במקום ה-5. מצא את  $a_1$  ואת  $d$ .
- ג. מצא את מספר איברי הסדרה אם ידוע כי סכום האיברים העומדים במקומות הזוגיים הוא 504.

- (27)** בסדרה חשבונית שבה  $2n$  איברים ידוע כי סכום כל האיברים גדול ב-66 מפעמיים סכום האיברים העומדים במקומות האי-זוגיים.
- א. הוכח כי  $nd = 66$ .
- ב. ידוע כי הפרש הסדרה הוא 3. הבע באמצעות  $a_1$  את סכום  $n$  האיברים הראשונים.
- ג. סכום  $n$  האיברים הראשונים הוא 187. מצא את האיבר החיובי הקטן ביותר בסדרה ואת מיקומו הסידורי בסדרה.

- (28)** אדם המעוניין לקנות רכב קיבל שתי הצעות מחיר.
- ההצעה הראשונה :
- לשלם בתשלום הראשון 1000 ₪ ובכל תשלום שאחריו סכום הגדול ב-500 ₪ מהתשלום הקודם.
- ההצעה השנייה :
- לשלם בתשלום הראשון 7200 ₪ ובכל תשלום שאחריו סכום הקטן ב-450 ₪ מהתשלום הקודם.
- ידוע כי מספר התשלומים בהצעה השנייה קטן ב-4 ממספר התשלומים שבהצעה הראשונה.
- א. כמה תשלומים יצטרך לשלם לפי כל הצעה.
- ב. מה מחיר הרכב?

## תשובות סופיות:

- (1)  $a_{43} = -235$
- (2)  $d = 4, a_1 = -5$
- (3) 20 איברים.
- (4) 48 איברים.
- (5) 15 קפיצות.
- (6) 58 מספרים.
- (7) 31 איברים חיוביים.
- (8)  $x = 4, x = 1$
- (9)  $a_{19} = 59$
- (10) א. הוכחה.
- (11)  $S_{14} = 413$
- (12) 21 איברים.
- (13) 16 דקות.
- (14) 37 איברים.
- (15) 3647
- (16) 23920
- (17) א.  $n = \sqrt{\frac{512}{d}}$
- (18) א.  $a_1 = 6, a_2 = 10, a_3 = 14$  ב.  $d = 4$
- (19) א.  $a_1 = 50, d = -6$  ב.  $a_{10} = -4$  ג.  $n = 6$
- (20) א.  $n = 81$  ב.  $n = 16$
- (21) א.  $d_1 = 4$  ב.  $a_1 = -52, b_1 = 95$
- (22) אי-זוגיים:  $S = 99$  זוגיים:  $S = 135$
- (23) שאלת הוכחה.
- (24) 29 איברים.
- (25) א. i.  $x = -50$  ii.  $d = 11$  ב.  $a_1 = -121$  ג.  $S = 2156$
- (26) א. הוכחה. ב.  $a_1 = -8, d = 2$  ג.  $n = 36$
- (27) א. הוכחה. ב.  $S = 22a_1 + 693$  ג.  $a_9 = 1$
- (28) א. 12 לפי ההצעה הראשונה ו-8 לפי ההצעה השנייה. ב. 45000 שח.

## סדרה הנדסית:

### סיכום כללי:

- נוסחת האיבר הכללי:

נוסחת האיבר הכללי של סדרה הנדסית המתחילה באיבר  $a_1$  ומנתה היא  $q$  נתונה ע"י הנוסחה:  $a_n = a_1 q^{n-1}$ , כאשר:  $n$  הוא מיקום האיבר שערכו  $a_n$  בסדרה.

- כלל נסיגה של סדרה הנדסית:

כלל נסיגה של סדרה הנדסית  $a_n$  שמנתה היא  $q$  ואיברה הראשון הוא  $a_1$  נתון ע"י הקשר הבא:  $a_{n+1} = a_n \cdot q$ .

- נוסחת הסכום של סדרה הנדסית:

סכום  $n$  האיברים הראשונים של סדרה הנדסית  $a_n$  שמנתה היא  $q$  ואיברה

$$\text{הראשון הוא } a_1 \text{ נתון ע"י: } S_n = \frac{a_1(q^n - 1)}{q - 1}.$$

### שאלות:

(1) נתונה הסדרה ההנדסית:  $\frac{1}{9}, \frac{1}{3}, 1, 3, \dots$

מצא את האיבר האחרון בסדרה אם ידוע שיש בה 9 איברים.

(2) מצא כמה איברים יש בסדרה ההנדסית:  $\frac{9}{64}, \frac{3}{16}, \frac{1}{4}, \dots, \frac{64}{81}$

(3) בסדרה הנדסית האיבר השישי הוא 8 והאיבר העשירי הוא 128. מצא מהו האיבר הראשון בסדרה ומהי מנת הסדרה.

(4) בסדרה הנדסית ההפרש בין האיבר השביעי לאיבר החמישי הוא 432 וההפרש בין האיבר החמישי לשלישי הוא 48. מצא מהו האיבר הראשון בסדרה ומהי מנת הסדרה.

- (5) בסדרה הנדסית עולה ההפרש בין האיבר השמיני לאיבר הרביעי הוא 3120 וסכום האיברים השני והרביעי הוא 5.2. מצא מהו האיבר הראשון בסדרה ומהי מנת הסדרה.
- (6) תחביב אחה"צ של שימי הפרעוש הוא לקפוץ על טומי הכלב. מנהגו של שימי הוא לקפוץ בדקה הראשונה 4 קפיצות ובכל דקה שאחריה לקפוץ פי 3 קפיצות מדקה הקודמת. כמה דקות אורך תחביב אחה"צ של שימי אם ידוע שבדקה האחרונה הוא קופץ 324 קפיצות?
- (7) מצא את ערכו של  $x$  אם ידוע שהאיברים הבאים הם איברים עוקבים בסדרה הנדסית:  $x-6, x+4, 4x+1$ . מצא גם את מנת הסדרה.
- (8) נתונה סדרה המוגדרת באמצעות כלל הנסיגה הבא: 
$$\begin{cases} a_{n+1} = 2a_n \\ a_1 = 3 \end{cases}$$
 הוכח שהסדרה הנדסית ומצא מהו האיבר השמיני בה.
- (9) מצא את סכום תשעת האיברים הראשונים בסדרה ההנדסית:  $5, 10, 20, 40, \dots$ .
- (10) תחביב אחה"צ של מימי הפרעושה הוא לקפוץ על טומי הכלב. מנהגו של מימי הוא לקפוץ בדקה הראשונה 2 קפיצות ובכל דקה שאחריה לקפוץ פי 5 קפיצות מדקה הקודמת. כמה דקות אורך תחביב אחה"צ של מימי אם ידוע שבכל אחה"צ היא קפצה 1562 קפיצות?
- (11) סכום  $n$  האיברים האחרונים בסדרה הנדסית בת  $3n$  איברים שמנתה 2, גדול פי 256 מסכום  $n$  האיברים הראשונים בה. כמה איברים בסדרה?
- (12) בסדרה הנדסית עולה שבה  $n$  איברים, סכום  $n-3$  האיברים האחרונים גדול פי 8 מסכום  $n-3$  האיברים הראשונים בה. מצא את מנת הסדרה.
- (13) סכום כל האיברים בסדרה הנדסית הוא 252. האיבר האחרון בסדרה גדול ב-120 מהאיבר השני בה. מצא כמה איברים יש בסדרה אם ידוע שמנתה 2.

**14** המספרים:  $2x-3$ ,  $x-9$ ,  $x-13$  הם שלושת האיברים הראשונים בסדרה הנדסית עולה שכל איבריה חיוביים.

- א. מצא את  $x$ .  
 ב. ענה על הסעיפים הבאים:  
 i. כתוב את נוסחת האיבר הכללי בסדרה זו.  
 ii. מצא שני איברים סמוכים בסדרה שסכומם הוא 18750.  
 ג. ידוע כי האיבר האחרון בסדרה הוא:  $a_n = 5^{11}$ .  
 מצא את סכום 7 האיברים האחרונים בסדרה.

**15** נתונה הסדרה ההנדסית הבאה:  $a_1, 4, 12, 36, \dots, a_{n+1}$ . מוסיפים לכל איבר בסדרה זו שישית מהאיבר הבא אחריו ויוצרים סדרה חדשה  $b_n$  באופן הבא:

$$b_1 = a_1 + \frac{a_2}{6}, \quad b_2 = a_2 + \frac{a_3}{6}, \quad b_3 = a_3 + \frac{a_4}{6}, \quad \dots, \quad b_n = a_n + \frac{a_{n+1}}{6}$$

- א. הוכח כי הסדרה  $b_n$  היא סדרה הנדסית ומצא את מנתה.  
 ב. הראה כי היחס בין סכום  $n$  האיברים הראשונים של הסדרה  $a_n$  ובין סכום  $n$  האיברים הראשונים של הסדרה  $b_n$  הוא  $\frac{2}{3}$ .  
 ג. מצא שני איברים סמוכים בסדרה  $b_n$  שסכומם מהווה  $\frac{2}{9}$  מ- $a_8$ .

**16** נתונה הסדרה ההנדסית:  $7, 14, 28, \dots$ .

בסדרה יש 8 איברים. חשב את סכום האיברים הנמצאים במקומות האי-זוגיים ואת סכום האיברים הנמצאים במקומות הזוגיים.

**17** בסדרה הנדסית ובה  $2n$  איברים סכום האיברים במקומות הזוגיים גדול פי 4 מסכום האיברים במקומות האי-זוגיים. חשב את מנת הסדרה.

**18** נתונה סדרה הנדסית שמנתה  $q$  ובה מספר זוגי של איברים. בטא באמצעות  $q$  את היחס בין סכום איברי הסדרה כולה לסכום האיברים הנמצאים במקומות הזוגיים שבה.

**19** בסדרה הנדסית שבה  $2n+1$  איברים, סכום  $n$  האיברים הראשונים קטן פי 9 מסכום  $n$  האיברים הבאים אחריהם. האיבר האחרון בסדרה גדול ב-30 מהאיבר הראשון שבה. מצא את האיבר הראשון בסדרה.

20) ענה על הסעיפים הבאים :

- א. הראה כי בסדרה הנדסית שבה  $2n$  איברים היחס בין סכום האיברים העומדים במקומות האי-זוגיים לבין סכום כל איברי הסדרה תלוי במנת בסדרה.
- בסדרה הנדסית שבה מספר זוגי של איברים ידוע כי סכום כל האיברים העומדים במקומות האי-זוגיים קטן פי 4 מסכום כל איברי הסדרה. האיבר הראשון בסדרה זו קטן ב-2 ממנת הסדרה.
- ב. כתוב נוסחה לאיבר כללי של סדרה זו.
- ג. מצא שני איברים סמוכים בסדרה שסכומם הוא 324.

- 21) בסדרה הנדסית שבה 12 איברים סכום כל איברי הסדרה גדול פי 3 מסכום האיברים כאשר מחליפים את סימני כל האיברים העומדים במקומות האי-זוגיים.
- א. מצא את מנת הסדרה.
- ב. ידוע כי ההפרש בין האיבר החמישי לאיבר הרביעי בסדרה הוא 8. מצא את האיבר הראשון בסדרה.
- ג. חשב את סכום כל האיברים העומדים במקומות הזוגיים בסדרה.

- 22) באחת ממדינות המזרח היה מלך שאהב משחקי חשיבה. לכבוד יום הולדתו הכין לו השר הבכיר שבממלכתו משחק מיוחד המכיל 25 משבצות ו-2 חיילי משחק. המלך, מרוב התלהבות ושמחה לא ידע כיצד לגמול לשר החכם ושאל אותו מה ירצה בתמורה. השר סרב לקבל דבר על מתנתו עד שלבסוף החליט המלך לתת לשר מחצית מכל אוצרות הממלכה המונים כ-40 מיליון אבנים יקרות. לאחר ששמע על כך השר, הוא החליט לאתגר את המלך והעלה את ההצעה הבאה :
- תן לי אבן יקרה אחת והכפל אותה בכל משבצת שבמשבצות המשחק באופן הבא : כנגד המשבצת הראשונה - אבן אחת, כנגד השנייה - שתי אבנים, כנגד השלישית - ארבע אבנים וכן הלאה...
- המלך הסכים להצעה.
- א. כמה אבנים המלך ייתן לשר כנגד המשבצת האחרונה במשחק?
- ב. העזר בכמות האבנים שברשותו של השר וקבע האם הצעתו שוות-ערך יותר מהחלטת המלך לתת לו מחצית מאוצרות הממלכה.
- ג. סמוך לפני שנתן המלך את האבנים לשר, הציעה בתו של המלך הצעה נוספת והיא : תן עבור כל משבצת זוגית  $2^n$  אבנים, כאשר  $n$  הוא מספר המשבצת. האם כדאי למלך לקבל את הצעת בתו או להישאר עם ההצעה המקורית של השר?

## תשובות סופיות:

(1)  $a_9 = 729$

(2)  $n = 7$

(3)  $a_1 = \pm \frac{1}{4}, q = \pm 2$

(4)  $a_1 = \frac{2}{3}, q = \pm 3$

(5)  $a_1 = \frac{1}{25}, q = 5$

(6) 5 דקות.

(7)  $x = -\frac{2}{3} \rightarrow q = -\frac{1}{2}, x = 11 \rightarrow q = 3$

(8)  $a_8 = 384$

(9)  $S_9 = 2555$

(10) 5 דקות.

(11) יש 12 איברים בסדרה.  $n = 4$

(12)  $q = 2$

(13)  $n = 6$

(14) א.  $x = 14$  ב. i.  $a_n = 5^{n-1}$  ב. ii.  $a_6, a_7$  ג.  $S_7^* = 61,034,375$

(15) א.  $q = 3$  ג.  $b_5, b_6$

(16) אי-זוגיים:  $S = 595$ , זוגיים:  $S = 1190$

(17)  $q = 4$

(18)  $\frac{q+1}{q}$

(19)  $a_1 = \frac{3}{8}$

(20) א.  $\frac{S_{n(o)}}{S_{2n}} = \frac{1}{q+1}$  ב.  $a_n = 3^{n-1}$  ג.  $a_5, a_6$

(21) א.  $q = 2$  ב.  $a_1 = 1$  ג.  $S_{6(p)} = 2730$

(22) א.  $a_{25} = 16,777,216$

ב. לפי הצעת השר יהיו לו 33,554,431 אבנים ולפי הצעת המלך יהיו

לו 20,000,000 אבנים. ג.  $4, 16, 64, \dots, 2^{24}$ ,  $S_n = 22,369,620$

## סדרות מעורבות:

### שאלות:

- (1) נתונים שלושה איברים עוקבים בסדרה הנדסית שמנתה 3. אם נכפול את המספר הראשון ב-3, נוסיף למספר השני 4 ונחסיר מהמספר השלישי 4 תתקבל סדרה חשבונית. מצא את המספרים.
- (2) נתונות שתי סדרות שמתחילות במספר 2 ובשתיהן 3 איברים. סדרה אחת היא חשבונית והשנייה הנדסית. האיבר השלישי בשתי הסדרות זהה והאיבר השני בסדרה ההנדסית קטן ב-4 מהאיבר השני בסדרה החשבונית. מצא את מנת הסדרה ההנדסית.
- (3) נתונים ארבעה מספרים בעלי התכונות הבאות:  
 הראשון, השני והרביעי מהווים שלושה איברים עוקבים בסדרה הנדסית שמנתה 2.  
 הראשון, השלישי והרביעי מהווים שלושה איברים עוקבים בסדרה חשבונית וסכומם  $22\frac{1}{2}$ . מצא את ארבעת המספרים.
- (4) ההפרש של סדרה חשבונית שווה למנה של סדרה הנדסית עולה. האיבר הראשון בסדרה ההנדסית הוא 6 וידוע כי סכום 2 האיברים הראשונים בסדרה החשבונית שווה לסכום שני האיברים הראשונים בסדרה ההנדסית. האיבר השלישי בסדרה ההנדסית גדול פי 2 מהאיבר השלישי בסדרה החשבונית.  
 א. מצא את שלושת האיברים של הסדרה החשבונית.  
 ב. מצא כמה איברים יש לחבר בסדרה החשבונית החל מהאיבר הראשון כדי לקבל את הסכום 60.  
 ג. מצא את מיקומו הסידורי של איבר בסדרה ההנדסית הגדול פי 12 מהאיבר האחרון שחובר בסכום הסדרה החשבונית שחישבת בסעיף הקודם.
- (5) נתונות שתי הסדרות הבאות: סדרה חשבונית:  $a_1, a_2, a_3, \dots$  וסדרה הנדסית:  $b_1, b_2, b_3, \dots$ . ידוע כי האיבר הראשון בשתי הסדרות שווה. האיבר השלישי בסדרה ההנדסית גדול פי 4 מהאיבר הראשון בסדרה החשבונית.  
 א. מצא את מנת הסדרה ההנדסית אם ידוע כי היא אינה עולה.  
 ב. נתון גם כי האיבר החמישי בסדרה ההנדסית שווה לאיבר הרביעי בסדרה החשבונית. הוכח כי הפרש הסדרה החשבונית גדול פי 5 מהאיבר הראשון.  
 ג. בכל סדרה יש 10 איברים. הסכום של כל האיברים של שתי הסדרות יחד הוא 212. מצא את האיבר הראשון של שתי הסדרות.

**תשובות סופיות:**

- (1) המספרים הם: 2, 6, 18.
- (2)  $q = 3$  או  $q = -1$ .
- (3) המספרים הם: 3, 6, 7.5, 12.
- (4) א. 8, 10, 12      ב. 5      ג. 6.
- (5) א.  $q = -2$       ג.  $a_1 = 2$ .

## סדרה הנדסית אינסופית מתכנסת:

### סיכום כללי:

- הגדרה:

סדרה הנדסית  $a_n$  המקיימת:  $|q| < 1$ ,  $(q \neq 0)$  נקראת סדרה הנדסית אינסופית מתכנסת.

- נוסחת הסכום של סדרה הנדסית אינסופית מתכנסת:

הסכום של סדרה הנדסית אינסופית מתכנסת  $a_n$  ניתן לחישוב ע"י שימוש בכלל:  $\lim_{n \rightarrow \infty} q^n = 0$  והצבתו בנוסחת הסכום של סדרה הנדסית.

$$. S = \frac{a_1}{1-q} \quad \text{מתקבל הכלל הבא:}$$

- סכום סופי של איברים בסדרה הנדסית אינסופית מתכנסת:

- כאשר מתבקשים לחשב סכום של  $n$  איברים ראשונים בסדרה הנדסית אינסופית מתכנסת יש להשתמש בנוסחת הסכום הרגילה:  $. S_n = \frac{a_1(q^n - 1)}{q - 1}$

- כאשר מתבקשים לחשב סכום של  $n$  איברים בסדרה הנדסית אינסופית מתכנסת המתחילים באיבר  $a_k$  יש להשתמש בנוסחת הסכום הרגילה

$$. S_n = \frac{a_k(q^n - 1)}{q - 1} \quad \text{באופן הבא:}$$

**שאלות:**

(1) מצא את סכום כל איברי הסדרה ההנדסית הבאה:  $12, 4, 1\frac{1}{3}, \dots$

(2) סכום כל איברי סדרה הנדסית אינסופית שמנתה  $\frac{1}{4}$  הוא 32. מצא את האיבר הראשון בסדרה.

(3) נתונה סדרה הנדסית אינסופית יורדת שסכומה 62.5. ידוע כי האיבר השני בסדרה הוא 10. מצא את האיבר הראשון ואת מנת הסדרה (שתי אפשרויות).

(4) האיבר הראשון בסדרה הנדסית אינסופית יורדת הוא 14. סכום האיברים במקומות הזוגיים הוא  $9\frac{1}{3}$ . מצא את סכום האיברים במקומות האי-זוגיים.

**\*הערה:** שתי השאלות הבאות מסכמות את סוגי הסכומים וייצוג סדרות שונות באמצעות סדרה נתונה כפי שמקובל בנושא זה ואינן מייצגות אורך של שאלת בגרות.

(5) נתונה סדרה הנדסית אינסופית מתכנסת  $a_n$  שמנתה  $q$ ,  $(q \neq 0, |q| < 1)$ , מגדירים שלוש סדרות חדשות:  $b_n, c_n$  ו- $d_n$  באופן הבא:

$d_n$	$c_n$	$b_n$	הסדרה:
$d_1 = S_a + a_1$	$c_1 = a_2^2 - a_1^2$	$b_1 = a_1$	<b>הכלל:</b>
$d_2 = S_a + a_2$	$c_2 = a_3^2 - a_2^2$	$b_2 = a_1 + a_2$	
$d_3 = S_a + a_3$	$c_3 = a_4^2 - a_3^2$	$b_3 = a_1 + a_2 + a_3$	
$\vdots$	$\vdots$	$\vdots$	
$d_n = S_a + a_n$	$c_n = a_{n+1}^2 - a_n^2$	$b_n = a_1 + a_2 + a_3 + \dots + a_n = S_{a(n)}$	

הסכום  $S_a$  הוא סכום הסדרה  $a_n$ , והסכום  $S_{a(n)}$  הוא סכום  $n$  האיברים הראשונים של הסדרה  $a_n$ .

- א. קבע אלו מבין הסדרות  $b_n$ ,  $c_n$  ו- $d_n$  הן הנדסיות והבע את מנתן ע"י  $q$ .
- ב. הבע באמצעות  $a_1$  בלבד את סכום הסדרה ההנדסית שמצאת בסעיף הקודם.
- ג. מסמנים את סכום ריבועי האיברים של הסדרה ההנדסית שמצאת בסעיף א' ב- $S_{(s)}$ . הוכח כי לא קיים ערך של  $q$  עבורו סכום ריבועי האיברים  $S_{(s)}$ , שווה לסכום הסדרה הנ"ל בריבוע.

6 נתונה סדרה הנדסית אינסופית יורדת:  $a_n$  שמנתה  $q$ . מגדירים סדרה חדשה  $b_n$  באופן הבא:

$$b_1 = S_1^* = \frac{a_1}{1-q}, b_2 = S_2^* = \frac{a_2}{1-q}, b_3 = S_3^* = \frac{a_3}{1-q}, \dots, b_n = S_n^* = \frac{a_n}{1-q}, \dots$$

כאשר:  $S_n^*$  מייצג את סכום הסדרה  $a_n$  החל מהאיבר  $a_n$  (ועד אינסוף).

- א. הוכח כי הסדרה  $b_n$  היא גם הנדסית אינסופית יורדת וכתוב את נוסחת האיבר הכללי שלה באמצעות  $a_1$  ו- $q$ .
- ב. ידוע כי סכום הסדרה  $b_n$  הוא 126 וכי סכום 8 האיברים הראשונים בסדרה  $a_n$  גדול פי 6560 מהאיבר התשיעי בסדרה  $b_n$ . מצא את  $a_1$  ו- $q$ .
- ג. היעזר בסעיף הקודם והוכח כי מתקיים:  $b_2 + b_3 + \dots + b_n + \dots = 42$ .
- ד. חשב את סכום האיברים העומדים במקומות הזוגיים בסדרה  $b_n$ .
- ה. חשב את סכום האיברים העומדים במקומות האי-זוגיים בסדרה  $b_n$ .
- ו. מחליפים את סימני האיברים העומדים במקומות האי-זוגיים בסדרה  $b_n$  כך שנוצרת הסדרה:  $b_n^*$ . חשב את סכום הסדרה  $b_n^*$ .
- ז. מחליפים את סימני האיברים העומדים במקומות הזוגיים בסדרה  $b_n$  כך שנוצרת הסדרה:  $b_n^{**}$ . חשב את סכום הסדרה  $b_n^{**}$ .
- ח. מעלים בריבוע את כל איברי הסדרה  $b_n$ . מסמנים את הסכום המתקבל ב- $S_{(s)}$  (מלשון: square). כמו כן, מסמנים את סכום הסדרה המקורית ב- $S_b$ . הראה כי:  $S_b^2 \neq S_{(s)}$ .
- ט. הוכח כי היחס בין סכום איברי הסדרה  $a_n$  וסכום איברי הסדרה  $b_n$  הוא  $\frac{2}{3}$ .

- (7) נתונה סדרה הנדסית אינסופית יורדת שסכומה 24. מאיברי הסדרה הנתונה יצרו את סדרה חדשה באופן הבא:  $a_1 + a_2, a_2 + a_3, a_3 + a_4, a_4 + a_5, \dots$ .
- א. הוכח שהסדרה החדשה היא הנדסית אינסופית יורדת.  
 ב. ידוע שסכום כל איברי הסדרה החדשה הוא 32.  
 מצא את האיבר הראשון והמנה של הסדרה המקורית.
- (8) בסדרה הנדסית אינסופית יורדת  $a_n$  ידוע כי סכום האיברים העומדים במקומות האי-זוגיים גדול פי  $1\frac{2}{3}$  מסכום האיברים העומדים במקומות הזוגיים.
- א. מצא את מנת הסדרה.  
 מחברים כל שני איברים סמוכים בסדרה הנתונה ויוצרים סדרה חדשה  $b_n$ .
- ב. הוכח כי הסדרה  $b_n$  גם היא הנדסית יורדת ומצא את מנתה.  
 ג. הראה כי סכום הסדרה  $b_n$  שווה לסכום הסדרה  $a_n$ .  
 ד. סכום שתי הסדרות יחד הוא 1000. מצא את האיבר הראשון בסדרה  $a_n$ .
- (9) נתונה סדרה הנדסית אינסופית  $a_1, a_2, a_3, \dots$  שמנתה היא  $q$ ,  $(0 < q < 1)$ . נגדיר את הסכומים הבאים:  $T = a_1 + a_2 + a_5 + a_6 + a_9 + a_{10} + \dots$ ,  $V = a_3 + a_7 + a_{11} + \dots$ . נתון כי:  $T = 6V$ .
- א. מצא את מנת הסדרה  $q$ .  
 ב. פי כמה קטן  $V$  מסכום כל האיברים העומדים במקומות האי-זוגיים בסדרה?  
 ג. מצא את האיבר הראשון אם ידוע כי סכום האיברים העומדים במקומות האי-זוגיים הוא  $1365\frac{1}{3}$ .
- (10) נתונה הסדרה ההנדסית הבאה:  $a_1, a_2, a_3, \dots, a_{2n}$  שמנתה היא  $q$ . בונים סדרה חדשה מריבועי כל האיברים הסדרה באופן הבא:  $a_1^2, a_2^2, a_3^2, \dots, a_{2n}^2$ .
- א. הוכח כי היחס בין סכום  $n$  האיברים הראשונים בסדרת הריבועים ובין סכום כל האיברים העומדים במקומות האי-זוגיים בסדרה הנתונה תלוי רק באיבר הראשון של הסדרה.  
 בסדרה הנדסית אינסופית יורדת שסכומה 640 ידוע כי סכום 10 האיברים הראשונים כאשר מעלים אותם בריבוע גדול פי 320 מסכום 10 האיברים הראשונים העומדים במקומות האי-זוגיים בסדרה.  
 ב. מצא את מנת הסדרה.  
 ג. מחברים את כל איברי הסדרה החל מאיבר  $a_n$  כלשהו.  
 ידוע כי סכום זה קטן פי 16 מסכום הסדרה המקורי. מצא את האיבר  $a_n$ .

- 11** נתונה סדרה הנדסית אינסופית  $a_1, a_2, a_3, \dots$  שמנתה היא  $q$ ,  $(q \neq 0, |q| < 1)$ .
- נגדיר את הסכומים הבאים:  $T = a_1 + a_3 + a_6 + a_8 + a_{11} + a_{13} + \dots, V = a_2 + a_7 + a_{12} + \dots$ .
- נתון כי:  $V = 0.3T$ .
- א. מצא את מנת הסדרה  $q$ .  
 מחליפים את הסימנים של כל האיברים העומדים במקומות האי-זוגיים ומתקבלת סדרה חדשה שסכומה הוא 12.
- ב. מצא את האיבר הראשון בסדרה המקורית.
- ג. מעלים את כל איברי הסדרה בריבוע. חשב את סכום הסדרה כעת.

## תשובות סופיות:

$$. S = 18 \quad (1)$$

$$. a_1 = 24 \quad (2)$$

$$. q = \frac{4}{5}, a_1 = 12 \frac{1}{2} \text{ או } q = \frac{1}{5}, a_1 = 50 \quad (3)$$

$$. S = 18 \frac{2}{3} \quad (4)$$

$$\frac{b_{n+1}}{b_n} = \frac{S_{n+1}}{S_n} = \frac{S_{n+1}}{S_n} = \frac{a_{n+1}(q^{n+1}-1)}{a_n(q^n-1)} = \frac{a_{n+1}(q^{n+1}-1)}{a_n(q^n-1)} = q \cdot \frac{q^{n+1}-1}{q^n-1} : b_n \text{ הסדרה } (5)$$

היות והיא תלויה ב- $n$  היא אינה הנדסית.

$$. \frac{c_{n+1}}{c_n} = \frac{a_{n+2}^2 - a_{n+1}^2}{a_{n+1}^2 - a_n^2} = \frac{a_n^2 q^4 - a_n^2 q^2}{a_n^2 q^2 - a_n^2} = \frac{a_n^2 q^2 (q^2 - 1)}{a_n^2 (q^2 - 1)} = q^2 : c_n \text{ הסדרה הנדסית: } (6)$$

$$\frac{b_{n+1}}{b_n} = \frac{S + a_{n+1}}{S + a_n} = \frac{\frac{a_1}{1-q} + a_{n+1}}{\frac{a_1}{1-q} + a_n} = \frac{a_1 + (1-q)a_{n+1}}{a_1 + (1-q)a_n} = \frac{a_1(1 + (1-q)q^n)}{a_1(1 + (1-q)q^{n-1})} = \frac{q^n - q^{n+1} + 1}{q^{n-1} - q^n + 1} : d_n \text{ הסדרה}$$

$$. S_{(c_n)} = \frac{c_1}{1-q_c} = \frac{a_2^2 - a_1^2}{1-q^2} = \frac{a_1^2(q^2-1)}{1-q^2} = -a_1^2 \quad \text{ב. היא אינה הנדסית.}$$

ג. מההשוואה:  $S_{(s)} = S^2$  מקבלים כי פתרון המשוואה הוא:  $q = 0, \pm 1$ .

כולם נפסלים מכיוון שמנת הסדרה הנתונה  $a_n$  היא שבר.

עבור  $|q| > 1$  הסדרות אינן מתכנסות ולכן לא קיים ערך של  $q$  עבורו השוויון יתקיים. מש"ל.

$$31.5 \quad \text{ד.} \quad \text{ה.} \quad 94.5 \quad \text{א.} \quad b_n = \frac{a_1}{1-q} q^{n-1} \quad \text{ב.} \quad a_1 = 56, q = \frac{1}{3} \quad \text{ג.} \quad \text{הוכחה.} \quad \text{ד.} \quad 31.5 \quad (6)$$

$$7938 \quad \text{ח.} \quad 63 \quad \text{ז.} \quad -63 \quad \text{ו.} \quad 94.5 \quad \text{ה.}$$

$$. (b_1 + b_2 + \dots + b_n + \dots)^2 : \text{משמעו: } S^2$$

הסכום:  $S_{(s)}$  משמעו:  $b_1^2 + b_2^2 + \dots + b_n^2 + \dots$ . ברור כי הביטויים אינם שווים.

$$. q = \frac{1}{3}, a_1 = 16 \quad \text{ב.} \quad \text{א. הוכחה.} \quad (7)$$

$$a_1 = 200 \quad \text{ד.} \quad \frac{b_{n+1}}{b_n} = \frac{a_{2n+1} + a_{2n+2}}{a_{2n-1} + a_{2n}} = q^2 \quad \text{ב.} \quad q = 0.6 \quad \text{א.} \quad (8)$$

$$a_1 = 1024 \quad \text{ג.} \quad \text{ב. פי 5} \quad q = \frac{1}{2} \quad \text{א.} \quad (9)$$

$$. a_5 = 20 \quad \text{ג.} \quad q = 0.5 \quad \text{ב.} \quad \text{א. הוכחה.} \quad (10)$$

$$. S = 288 \quad \text{ג.} \quad a_1 = -16 \quad \text{ב.} \quad q = \frac{1}{3} \quad \text{א.} \quad (11)$$

## סדרת נסיגה:

### שאלות:

$$(1) \quad \begin{cases} a_{n+1} = a_n + 2n - 11 \\ a_1 = -6 \end{cases} \quad \text{נתונה סדרה המוגדרת על פי כלל הנסיגה הבא:}$$

- א. מצא את האיבר השלישי בסדרה.  
 ב. נתון כי האיבר השלושה-עשר בסדרה הוא 18. מצא את  $a_{14}$  ו- $a_{12}$ .  
 ג. נתון כי האיבר השלושים ואחת בסדרה הוא  $k$ .  
 הבע באמצעות  $k$  את  $a_{32}$  ו- $a_{30}$ .  
 ד. מצא את מיקומם של שני איברים סמוכים בסדרה שההפרש ביניהם הוא 133.  
 ה. הסבר מדוע אין שני איברים סמוכים בסדרה שההפרש ביניהם הוא 62.

$$(2) \quad \begin{cases} a_{n+1} = a_n + 2n \\ a_1 = 0 \end{cases} \quad \text{נתונה סדרה המוגדרת על פי כלל הנסיגה הבא:}$$

נתון כי  $a_k = 72$ . הבע באמצעות  $k$  את  $a_{k+2}$ .

$$(3) \quad \begin{cases} a_{n+1} = 2a_n + n^2 - 31 \\ a_7 = t \end{cases} \quad \text{נתונה סדרה המוגדרת על פי כלל הנסיגה הבא:}$$

מצא את ערכו של  $t$  שבעבורו האיברים  $a_7, a_8, a_9$  הם איברים עוקבים בסדרה חשבונית.

- (4) סדרה שהאיבר הכללי בה הוא  $a_n$  מוגדרת על פי כלל הנסיגה הבא:  $a_{n+1} = a_n + 6n - 2$ .  
 מגדירים סדרה חדשה שהאיבר הכללי בה הוא  $b_n$  באופן הבא:  $b_n = a_{n+1} - a_n$ .  
 א. הוכח שהסדרה  $b_n$  היא סדרה חשבונית ומצא את הפרשה.  
 ב. חשב את  $b_1$ .

- (5) סדרה שהאיבר הכללי בה הוא  $a_n$  מוגדרת על פי כלל הנסיגה הבא:  $a_{n+1} = 3a_n + 4$ .  
 מגדירים סדרה חדשה שהאיבר הכללי בה הוא  $b_n$  באופן הבא:  $b_n = a_n + 2$ .  
 א. הוכח שהסדרה  $b_n$  היא סדרה הנדסית ומצא את מנתה.  
 ב. נתון:  $b_5 = 162$ . חשב את  $a_1$ .

- 6) סדרה מוגדרת ע"י הכלל:  $a_1 = 3, a_{n+1} = 3a_n + 10n - 5$ .  
 מגדירים סדרה חדשה המקיימת לכל  $n$  טבעי:  $b_n = a_n + 5n$ .
- הוכח כי הסדרה  $b_n$  היא סדרה הנדסית.
  - חשב את האיבר  $b_5$ .
  - חשב את הסכום:  $b_2 + b_4 + b_6 + \dots + b_{12}$ .
- 7) סדרה מוגדרת לכל  $n$  טבעי ע"י הנוסחה:  $a_1 = k, a_{n+1} = 8n - a_n + 3$ .
- הבע באמצעות  $k$  את ארבעת האיברים הראשונים בסדרה.
  - הוכח כי סדרת האיברים העומדים במקומות האי-זוגיים וסדרת האיברים העומדים במקומות הזוגיים הן חשבוניות ומצא את הפרשן.
  - חשב את סכום 20 האיברים הראשונים בסדרה.
- 8) סדרה מוגדרת ע"י כלל הנסיגה הבא:  $a_1 = 2, a_{n+1} = \frac{3a_n}{2a_n + 3}$ .
- מגדירים סדרה חדשה לפי:  $b_n = \frac{4 - 7a_n}{a_n}$ .
- הוכח כי הסדרה  $b_n$  היא חשבונית ומצא את הפרשה.
  - חשב את הסכום הבא:  $b_2 + b_4 + b_6 + \dots + b_{22}$ .
- 9) סדרה מקיימת את כלל הנסיגה:  $a_1 = 1, a_{n+1} = 3n - a_n - 7$ .
- חשב את 5 האיברים הראשונים וקבע האם הסדרה היא חשבונית.
  - הוכח כי לכל  $n$  טבעי מתקיים:  $a_{n+2} = a_n + 3$ .
  - כתוב נוסחה לסכום  $n$  האיברים הראשונים העומדים במקומות האי-זוגיים בסדרה.
  - חשב את הסכום הבא:  $a_1 + a_3 + a_5 + \dots + a_{17}$ .

10 סדרה מוגדרת לפי כלל הנסיגה הבא :  $a_{n+1} = a_n + 2 \cdot 3^n + 2$ .

א. ענה על הסעיפים הבאים :

i. הבע את  $a_{n+2}$  באמצעות  $a_n$ .

ii. מצא את מיקומו הסידורי של איבר הגדול ב-652 מהאיבר העומד שני מקומות לפניו.

ב. הנוסחה לסכום  $n$  האיברים הראשונים של אחת מהסדרות המיוצגות

ע"י כלל הנסיגה הנ"ל היא :  $S_n = 1.5 \cdot 3^n + n^2 + n - 1.5$ .

חשב את הסכום הבא :  $a_6 + a_7 + a_8 + \dots + a_{11}$ .

ג. מהו האיבר הראשון של הסדרה המיוצגת ע"י כלל הנסיגה ונוסחת הסכום הנ"ל?

11 סדרה מוגדרת ע"י כלל הנסיגה :  $a_1 = 6, a_{n+1} = \frac{2a_n}{a_n + 5}$ .

מגדירים סדרה חדשה  $b_n$  המקיימת לכל  $n$  טבעי :  $b_n = \frac{a_n + 3}{a_n}$ .

א. הוכח כי הסדרה  $b_n$  היא הנדסית ומצא את מנתה.

ב. כתוב נוסחה ל- $b_n$  באמצעות  $n$  בלבד.

ג. חשב את הסכום הבא :  $b_1 - b_2 + b_3 - b_4 + \dots - b_{10}$ .

## תשובות סופיות:

$$a_{30} = k - 49, a_{32} = k + 51 \quad \text{ג.} \quad a_{12} = 5, a_{14} = 33 \quad \text{ב.} \quad a_3 = -22 \quad \text{א.} \quad (1)$$

$$a_{62}, a_{63} \quad \text{ד.}$$

$$a_{k+2} = 74 + 4k \quad (2)$$

$$t = -33 \quad (3)$$

$$b_1 = 4 \quad \text{ב.} \quad d = 6 \quad \text{א.} \quad (4)$$

$$a_1 = 0 \quad \text{ב.} \quad q = 3 \quad \text{א.} \quad (5)$$

$$S = 1594320 \quad \text{ג.} \quad b_5 = 648 \quad \text{ב.} \quad b_{n+1} = 3b_n \quad \text{א.} \quad (6)$$

$$8 \quad \text{ב.} \quad a_4 = 19 - k, a_3 = k + 8, a_2 = 11 - k, a_1 = k \quad \text{א.} \quad (7)$$

$$830 \quad \text{ג.}$$

$$S_{11(p)} = 267 \frac{2}{3} \quad \text{ב.} \quad (8)$$

$$S_{n(o)} = 1.5n^2 - 0.5n \quad \text{ג.} \quad a_1 = 1, a_2 = -5, a_3 = 4, a_4 = -2, a_5 = 7 \quad \text{א.} \quad (9)$$

$$S_{9(o)} = 117 \quad \text{ד.}$$

$$a_4 \quad \text{ii.}$$

$$a_{n+2} = a_n + 8 \cdot 3^n + 4 \quad \text{i.} \quad \text{א.} \quad (10)$$

$$a_1 = 5 \quad \text{ג.}$$

$$S_{6-11} = 265458 \quad \text{ב.}$$

$$S_{10}^* = -4086.74 \quad \text{ג.}$$

$$b_n = 1.5 \cdot 2.5^{n-1} \quad \text{ב.}$$

$$q = 2.5 \quad \text{א.} \quad (11)$$

# מכינה למבחן פטור (חדוא 0)

פרק 8 - טריגונומטריה במשולש ישר זווית

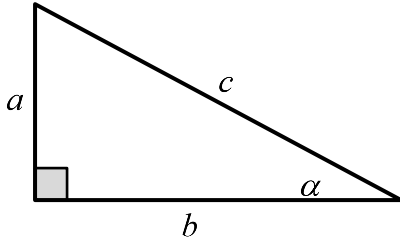
תוכן העניינים

1. משולש ישר זווית.....145

## משולש ישר זווית:

### סיכום כללי:

#### הגדרות הפונקציות הטריגונומטריות:



$$\sin \alpha = \frac{\text{הניצב שמול הזווית}}{\text{היתר}} = \frac{a}{c}$$

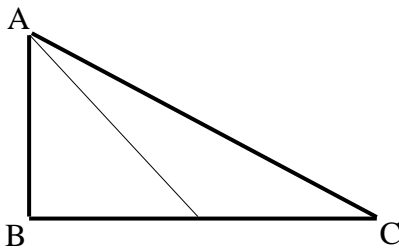
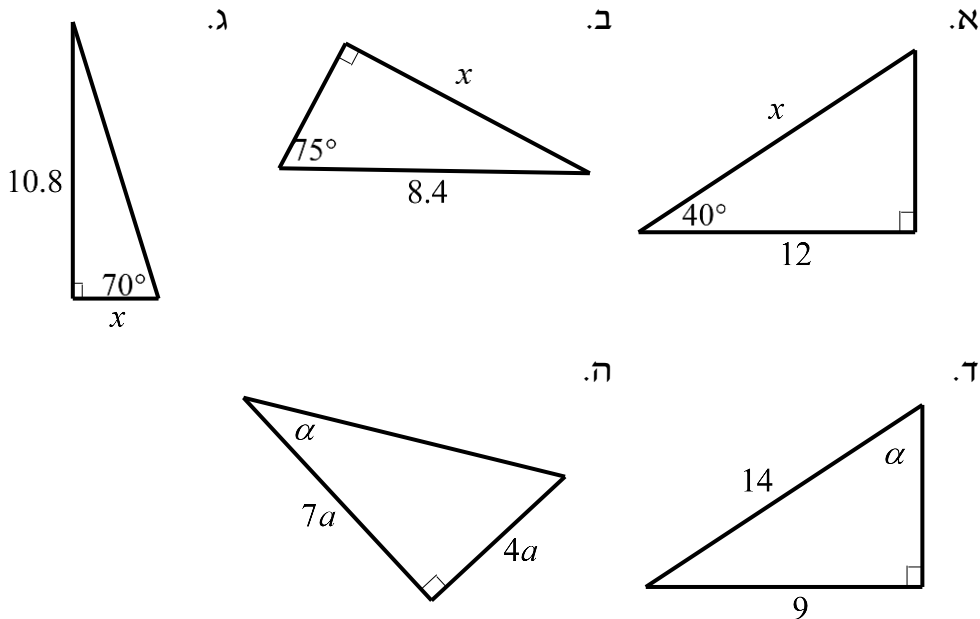
$$\cos \alpha = \frac{\text{הניצב שליד הזווית}}{\text{היתר}} = \frac{b}{c}$$

$$\tan \alpha = \frac{\text{הניצב שמול הזווית}}{\text{הניצב שליד הזווית}} = \frac{a}{b}$$

$$a^2 + b^2 = c^2: \text{משפט פיתגורס}$$

### שאלות:

1) מצא את ערכו של  $\alpha/x$  במשולשים ישרי הזווית הבאים:



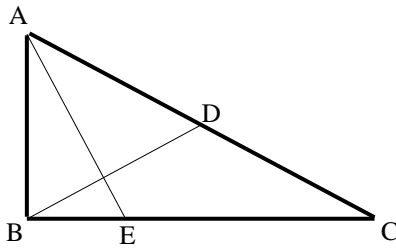
2) המשולש ABC שבציור הוא משולש

ישר זווית ( $\sphericalangle B = 90^\circ$ ).

AD הוא התיכון לניצב BC.

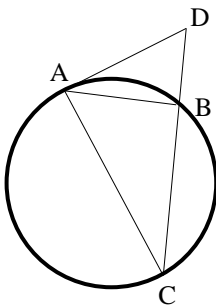
נתון:  $\sphericalangle C = 28^\circ$ ,  $AB = 6$  ס"מ.

מצא את AD ואת  $\sphericalangle BAD$ .



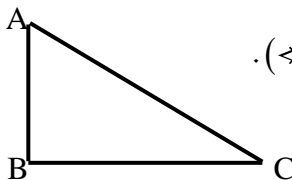
- (3) המשולש ABC שבציור הוא משולש ישר זווית ( $\angle B = 90^\circ$ ). BD הוא התיכון ליתר ו-AE הוא חוצה הזווית  $\angle A$ . נתון:  $BC = 8$  ס"מ,  $BD = 5.6$  ס"מ. מצא את BE ואת  $\angle BAE$ .

- (4) מצא את זוויותיו של מעוין שאורכי אלכסונו 24 ס"מ ו-18 ס"מ.

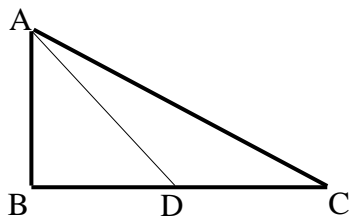


- (5) המשולש ABC חסום במעגל כך שהצלע AC היא קוטר המעגל. המשיק למעגל בנקודה A והמשך הצלע CB נפגשים בנקודה D. נתון:  $\angle DAB = 32^\circ$ ,  $BD = 4$  ס"מ. מצא את אורכו של רדיוס המעגל.

- (6) במשולש שווה שוקיים שבו השוק ארוכה ב-4 ס"מ מהבסיס נתון כי זווית הראש היא  $34.92^\circ$ . מצא את שטח המשולש.

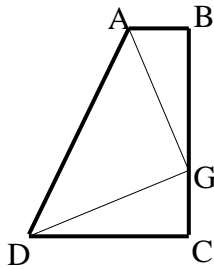


- (7) המשולש ABC שבציור הוא משולש ישר זווית ( $\angle B = 90^\circ$ ). נתון:  $AB = a$ ,  $\angle A = \alpha$ . הבע באמצעות  $\alpha$  ו- $a$  את היקף המשולש.

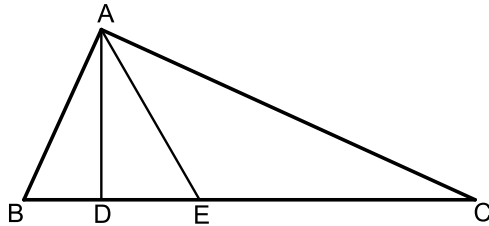


- (8) המשולש ABC שבציור הוא משולש ישר זווית ( $\angle B = 90^\circ$ ). AD הוא התיכון לניצב BC. נתון:  $AB = b$ ,  $\angle C = \alpha$ . הבע באמצעות  $\alpha$  ו- $b$  את אורכי הקטעים AD ו-BD.

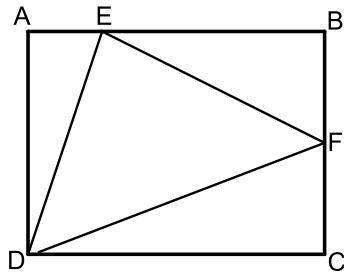
- (9) במשולש ישר זווית אחת הזוויות החדות היא  $\alpha$  ואורך חוצה הזווית זו הוא  $k$ . הבע באמצעות  $\alpha$  ו- $k$  את שטח המשולש ואת אורך היתר.



- 10** טרפז ABCD הוא טרפז ישר זווית ( $\angle B = \angle C = 90^\circ$ ). הנקודה G נמצאת על השוק BC כך ש- $AG \perp DG$ . נתון:  $\angle BAG = \beta$ ,  $AG = DG = m$ . הבע באמצעות  $\beta$  ו- $m$  את שטח הטרפז.



- 11** המשולש ABC הוא ישר זווית ( $\angle A = 90^\circ$ ). הקטעים AD ו-AE הם בהתאמה גובה ליתר וחוצה זווית. מסמנים:  $\angle DAE = \alpha$ ,  $DE = k$ .  
 א. הבע באמצעות  $k$  ו- $\alpha$  את שטח המשולש ABC.  
 ב. חשב את שטח המשולש ABC אם ידוע כי:  $\alpha = 30^\circ$  ו- $k = 2$ .

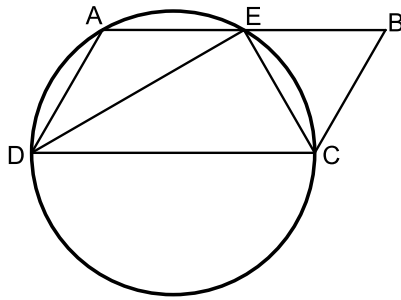


- 12** במלבן ABCD מסמנים את הנקודות E ו-F הנמצאות על הצלעות AB ו-BC בהתאמה כך ש-E מקיימת:  $3AE = BE$  ו-F היא אמצע הצלע BC. אורך הצלע AD שווה לאורך הקטע BE. מעבירים את הקטעים EF, DF ו-DE כך שנוצר במשולש DEF.  
 א. סמן ב- $t$  את אורך הקטע AE והבע באמצעות  $t$  את אורכי צלעות המשולש DEF.  
 ב. חשב את זוויות המשולש EDF.

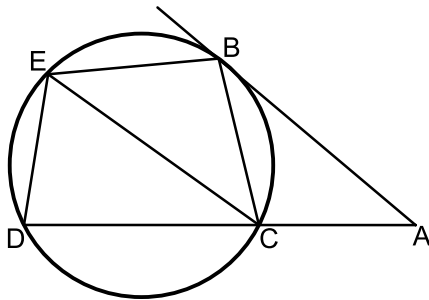
- 13** משולש שווה שוקיים שאורך שוקו  $k$  וזווית הבסיס שלו היא  $\beta$  חוסם מעגל. הבע באמצעות  $\beta$  ו- $k$  את רדיוס המעגל.

- 14** בטרפז ישר זווית חסום מעגל. אורך השוק הארוכה בטרפז היא  $b$  והזווית שהיא יוצרת עם הבסיס הגדול היא  $\alpha$ . הבע באמצעות  $\alpha$  ו- $b$  את אורכו של הבסיס הגדול בטרפז ואת שטחו.

הערה: השאלות הבאות משלבות ידע בגיאומטריה ובטריגונומטריה יחד:



- 15) דרך הקודקודים  $A, C$  ו- $D$  של המקבילית  $ABCD$  מעבירים מעגל. היקף המעגל חוצה את הצלע  $AB$  בנקודה  $E$ ,  $(AE = BE)$ . נתון כי  $DC$  הוא קוטר במעגל וכי המיתר  $DE$  חוצה את זווית  $D$ .
- הוכח כי המיתר  $CE$  חוצה את זוויות  $C$ .
  - רדיוס המעגל יסומן ב- $R$ .
  - הבע באמצעות  $R$  את היקף המקבילית.
  - מצא את רדיוס המעגל אם ידוע כי שטח המקבילית הוא  $16\sqrt{3}$  סמ"ר.



- 16) מהנקודה  $A$  שמחוץ למעגל מעבירים משיק  $AB$  וישר חותך  $ACD$ . מעבירים את המיתרים  $BC$  ו- $BE$  אשר זהים באורכם. כמו כן מעבירים את המיתר  $DE$ . אורך המיתר  $CE$  שונה מאורך המשיק  $AB$ .
- הוכח כי המרובע  $ABEC$  הוא טרפז.
  - הוכח כי:  $\angle BEC = 2 \cdot \angle EDC$ .
  - נתונים:  $\angle A = 40^\circ$ ,  $AC = 6$  ס"מ,  $AB = 9$  ס"מ,  $CE = 8$  ס"מ. חשב את שטח המרובע  $ABEC$ .

## תשובות סופיות:

$$(1) \quad \text{א. } x = 15.665 \quad \text{ב. } x = 8.114 \quad \text{ג. } x = 3.931 \quad \text{ד. } \alpha = 40.005^\circ \quad \text{ה. } \alpha = 29.745^\circ$$

$$(2) \quad AD = 8.236 \text{ ס"מ}, \quad \angle BAD = 43.24^\circ$$

$$(3) \quad BE = 3.294 \text{ ס"מ}, \quad \angle BAE = 22.792^\circ$$

$$(4) \quad 73.74^\circ, 73.74^\circ, 106.26^\circ, 106.26^\circ$$

$$(5) \quad R = 6.04 \text{ ס"מ}$$

$$(6) \quad S = 28.618 \text{ סמ"ר}$$

$$(7) \quad P = a \left( 1 + \tan \alpha + \frac{1}{\cos \alpha} \right)$$

$$(8) \quad AD = \sqrt{b^2 + \frac{b^2}{4 \tan^2 \alpha}}, \quad BD = \frac{b}{2 \tan \alpha}$$

$$(9) \quad AC = \frac{k \cos \frac{\alpha}{2}}{\cos \alpha}, \quad S = \frac{k^2 \cos^2 \frac{\alpha}{2} \tan \alpha}{2}$$

$$(10) \quad \frac{(m \sin \beta + m \cos \beta)^2}{2}$$

$$(11) \quad \text{א. } S = \frac{k^2}{\cos 2\alpha \tan^2 \alpha} \quad \text{ב. } 24 \text{ סמ"ר}$$

$$(12) \quad \text{א. } DE = t\sqrt{10}, EF = t\sqrt{11.25}, DF = t\sqrt{18.25} \quad \text{ב. } 81.86^\circ, 51^\circ, 47.14^\circ$$

$$(13) \quad R = k \cos \beta \tan \frac{\beta}{2}$$

$$(14) \quad \frac{\frac{1}{2} b \sin \alpha + \frac{\frac{1}{2} b \sin \alpha}{\tan \frac{\alpha}{2}}}{}, S = \frac{1}{2} b^2 \sin \alpha (1 + \sin \alpha)$$

$$(15) \quad \text{א. שאלת הוכחה.} \quad \text{ב. } 6R \quad \text{ג. } 4 \text{ ס"מ}$$

$$(16) \quad \text{א. שאלת הוכחה.} \quad \text{ב. שאלת הוכחה.} \quad \text{ג. } 32.78 \text{ סמ"ר}$$

# מכינה למבחן פטור (חדוא 0)

פרק 9 - זהויות טריגונומטריות

תוכן העניינים

150	1. זהויות יסוד
154	2. ערכי הפונקציות הטריגונומטריות עבור זויות מיוחדות
156	3. מעגל היחידה
159	4. סכום והפרש זויות
163	5. זויות כפולה
166	6. סכום והפרש פונקציות
169	7. מכפלת פונקציות

## זהויות יסוד:

### סיכום כללי:

$\sin^2 \alpha + \cos^2 \alpha = 1$ $\tan \alpha \cdot \cot \alpha = 1$	$\tan \alpha = \frac{\sin \alpha}{\cos \alpha}$ , $\cot \alpha = \frac{\cos \alpha}{\sin \alpha}$	קשרים בין פונקציות
$\sin \alpha = \cos(90^\circ - \alpha)$	$\cos \alpha = \sin(90^\circ - \alpha)$	זוויות משלימות ל- $90^\circ$
$\tan \alpha = \cot(90^\circ - \alpha)$	$\cot \alpha = \tan(90^\circ - \alpha)$	
$\tan^2 \alpha + 1 = \frac{1}{\cos^2 \alpha}$	$\cot^2 \alpha + 1 = \frac{1}{\sin^2 \alpha}$	קשרים בין פונקציות

### שאלות:

#### הוכחת זהויות יסודיות:

הוכח את הזהויות הבאות תוך שימוש בזהויות היסוד:

$$\frac{1 - \sin^2 \alpha}{\cos^2 \alpha} = 1 \quad (2)$$

$$\sin^2 \alpha + 2 \cos^2 \alpha = 1 + \cos^2 \alpha \quad (4)$$

$$(\sin \alpha + \cos \alpha)^2 + (\sin \alpha - \cos \alpha)^2 = 2 \quad (6)$$

$$\sin^2(\alpha + 45^\circ) + \sin^2(45^\circ - \alpha) = 1 \quad (8)$$

$$\frac{\sin \alpha (1 - \cos^2 \alpha)}{\cos^3 \alpha} = \tan^3 \alpha \quad (10)$$

$$\cos^2 \alpha (1 + \tan^2 \alpha) = 1 \quad (12)$$

$$\frac{\sin^3 \alpha}{\sin(90^\circ - \alpha) - \cos^3 \alpha} = \tan \alpha \quad (14)$$

$$\frac{1 - 2 \sin^2 \alpha \cos^2 \alpha}{\sin^2 \alpha \cdot \cos^2 \alpha} = \tan^2 \alpha + \cot^2 \alpha \quad (16)$$

$$\tan \alpha \cdot \cos \alpha = \sin \alpha \quad (1)$$

$$\frac{\sin \alpha}{\sqrt{1 - \sin^2 \alpha}} = \tan \alpha \quad (3)$$

$$\frac{\sin^2 \alpha}{1 + \cos \alpha} + \frac{\sin^2 \alpha}{1 - \cos \alpha} = 2 \quad (5)$$

$$\frac{\cos(90^\circ - \alpha)}{\cos \alpha} = \tan \alpha \quad (7)$$

$$\sqrt{1 + \tan^2 \alpha} \cdot \sqrt{1 - \cos^2 \alpha} = \tan \alpha \quad (9)$$

$$\frac{\sin(90^\circ - \alpha) - \cos^3 \alpha}{\sin^3 \alpha} = \cot \alpha \quad (11)$$

$$\frac{\sin \alpha \cdot \cos \alpha}{1 - \cos^2 \alpha} = \cot \alpha \quad (13)$$

$$\tan^2 \alpha - \sin^2 \alpha = \tan^2 \alpha \sin^2 \alpha \quad (15)$$

## הוכחות מתקדמות:

$$(17) \quad \frac{1 + \cos \alpha}{1 - \cos \alpha} + \frac{1 - \cos \alpha}{1 + \cos \alpha} = 2 + 4 \cot^2 \alpha \quad \text{הוכח את הזהות הבאה:}$$

$$(18) \quad \frac{1 + \tan \alpha}{1 - \tan \alpha} + \frac{1 - \tan \alpha}{1 + \tan \alpha} = \frac{2}{\cos^2 \alpha - \sin^2 \alpha} \quad \text{הוכח את הזהות הבאה:}$$

$$(19) \quad (\cot \alpha - \tan \alpha)(\cot \alpha + \tan \alpha) = (1 + \cot^2 \alpha)(1 + \tan^2 \alpha) \quad \text{הוכח את הזהות הבאה:}$$

$$(20) \quad \frac{\sin^4 \alpha + \cos^2 \alpha - \sin^2 \alpha}{\cos^4 \alpha + \sin^2 \alpha - \cos^2 \alpha} = \cot^4 \alpha \quad \text{הוכח את הזהות הבאה:}$$

$$(21) \quad 1 - \sin^2 \alpha (1 + \cos^2 \alpha) = \cos^4 \alpha \quad \text{הוכח את הזהות הבאה:}$$

$$(22) \quad \left( \sqrt{\frac{1 + \cos \alpha}{1 - \cos \alpha}} + \sqrt{\frac{1 - \cos \alpha}{1 + \cos \alpha}} \right)^2 = 4 + 4 \cot^2 \alpha \quad \text{הוכח את הזהות הבאה:}$$

$$(23) \quad \sin^2 \alpha \cos^2 \beta - \sin^2 \beta \cos^2 \alpha = \sin^2 \alpha - \sin^2 \beta \quad \text{הוכח את הזהות הבאה:}$$

$$(24) \quad \frac{\tan \alpha + \tan \beta}{\cot \alpha + \cot \beta} = \tan \alpha \tan \beta \quad \text{הוכח את הזהות הבאה:}$$

## הבעת ביטויים וחישובים באמצעות זהויות יסוד:

$$(25) \quad \text{נתון כי: } \sin \alpha + \cos \alpha = k$$

הבע באמצעות  $k$  את ערכי הביטויים הבאים:

א.  $\sin \alpha \cdot \cos \alpha$

ב.  $\sin \alpha - \cos \alpha$

ג.  $\tan \alpha + \cot \alpha$

ד.  $\sin^3 \alpha + \cos^3 \alpha$

$$(26) \quad \text{נתון כי: } \sin \alpha = \frac{\sqrt{5}}{5}$$

מבלי למצוא את  $\alpha$  חשב את:  $\tan^2 \alpha - 2 \cot^2 \alpha$

(27) נתון כי:  $\tan \alpha = \sqrt{7}$ .

מבלי למצוא את  $\alpha$  חשב את:  $\frac{\sqrt{7} \sin \alpha + 6 \cos \alpha}{\sqrt{28} \sin \alpha - \cos \alpha}$ .

(28) חשב את ערך המכפלה הבאה:  $\tan 1^\circ \cdot \tan 2^\circ \cdot \tan 3^\circ \cdot \dots \cdot \tan 88^\circ \cdot \tan 89^\circ$ .

### תשובות סופיות:

- (1) שאלת הוכחה.
- (2) שאלת הוכחה.
- (3) שאלת הוכחה.
- (4) שאלת הוכחה.
- (5) שאלת הוכחה.
- (6) שאלת הוכחה.
- (7) שאלת הוכחה.
- (8) שאלת הוכחה.
- (9) שאלת הוכחה.
- (10) שאלת הוכחה.
- (11) שאלת הוכחה.
- (12) שאלת הוכחה.
- (13) שאלת הוכחה.
- (14) שאלת הוכחה.
- (15) שאלת הוכחה.
- (16) שאלת הוכחה.
- (17) שאלת הוכחה.
- (18) שאלת הוכחה.
- (19) שאלת הוכחה.
- (20) שאלת הוכחה.
- (21) שאלת הוכחה.
- (22) שאלת הוכחה.
- (23) שאלת הוכחה.
- (24) שאלת הוכחה.

$$(25) \quad \text{א. } \frac{k^2 - 1}{2} \quad \text{ב. } \pm\sqrt{2 - k^2} \quad \text{ג. } \frac{2}{k^2 - 1} \quad \text{ד. } \frac{k}{2}(3 - k^2)$$

$$(26) \quad -7.75$$

$$(27) \quad 1$$

$$(28) \quad 1$$

## ערכי הפונקציות הטריגונומטריות עבור זוויות מיוחדות:

סיכום כללי:

$\alpha = 90^\circ$	$\alpha = 60^\circ$	$\alpha = 45^\circ$	$\alpha = 30^\circ$	$\alpha = 0^\circ$	
1	$\frac{\sqrt{3}}{2}$	$\frac{\sqrt{2}}{2}$	$\frac{1}{2}$	0	$\sin \alpha$
0	$\frac{1}{2}$	$\frac{\sqrt{2}}{2}$	$\frac{\sqrt{3}}{2}$	1	$\cos \alpha$
$\phi$	$\sqrt{3}$	1	$\frac{\sqrt{3}}{3}$	0	$\tan \alpha$
0	$\frac{\sqrt{3}}{3}$	1	$\sqrt{3}$	$\phi$	$\cot \alpha$

הערות:

- ערכי הפונקציות הטריגונומטריות עבור זוויות של  $0^\circ$  ו- $90^\circ$  תלמדנה בהמשך אך ניתנו כעת כדי להשלים את תמונת ערכי הזוויות.
- ניתן לזכור את הטבלה ע"י כתיבה של שורת הסינוס לפי:  $\frac{\sqrt{4}}{2}, \frac{\sqrt{3}}{2}, \frac{\sqrt{2}}{2}, \frac{\sqrt{1}}{2}, \frac{\sqrt{0}}{2}$  אשר נותנים את הערכים של השורה הראשונה לאחר פישוט קל. עבור שורת ה- $\cos \alpha$  יש להפוך את הערכים ולבסוף יש לחלק כל זוג ביטויים כדי לכתוב את ערכי  $\tan \alpha$  ולסובב עבור ערכי  $\cot \alpha$ .

שאלות:

חשב ללא מחשבון את ערכי הביטויים הבאים תוך שימוש בערכי הפונקציות הטריגונומטריות של זוויות מיוחדות:

$$1) \sin 30^\circ + \cos 30^\circ$$

$$2) \frac{\sin 30^\circ \cdot \cos 30^\circ}{\sin 60^\circ}$$

$$3) \tan 45^\circ + \frac{\sin 45^\circ}{\cos 45^\circ}$$

$$\cdot \frac{1 + \cos 60^\circ}{2 \sin 60^\circ} \quad (4)$$

$$\cdot \cos^2 45^\circ + \sin^2 30^\circ \quad (5)$$

$$\cdot \frac{\tan^2 60^\circ \cdot \cos^2 30^\circ}{\cos^2 60^\circ} \quad (6)$$

$$\cdot \frac{\tan 30^\circ \cdot \cot 60^\circ - \cot 45^\circ \cdot \tan 45^\circ}{4 \left( \sin^2 60^\circ - \frac{1}{4} \right)} \quad (7)$$

$$\cdot \frac{27 \cot^4 60^\circ}{\sin 30^\circ \cdot \cos 45^\circ \cdot \tan 60^\circ} \quad (8)$$

### תשובות סופיות:

$$\frac{1 + \sqrt{3}}{2} \quad (1)$$

$$\frac{1}{2} \quad (2)$$

$$2 \quad (3)$$

$$\frac{3}{2\sqrt{3}} \quad (4)$$

$$\frac{3}{4} \quad (5)$$

$$9 \quad (6)$$

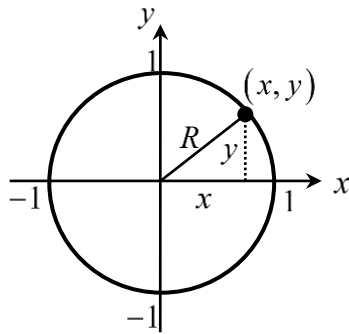
$$-\frac{1}{3} \quad (7)$$

$$2\sqrt{6} \quad (8)$$

## מעגל היחידה – הגדרה וזהויות:

### סיכום כללי:

#### הגדרת מעגל היחידה:



- מעגל קנוני שרדיוסו 1 מוגדר להיות המעגל הטריגונומטרי.
- הנקודות  $(0, -1)$ ,  $(-1, 0)$ ,  $(0, 1)$ ,  $(1, 0)$  מתאימות לזוויות של  $270^\circ$ ,  $180^\circ$ ,  $90^\circ$ ,  $0^\circ$ .

#### הזהויות של המעגל הטריגונומטרי:

טנגנס	קוסינוס	סינוס	רביע
$\tan(180^\circ - \alpha) = -\tan \alpha$	$\cos(180^\circ - \alpha) = -\cos \alpha$	$\sin(180^\circ - \alpha) = \sin \alpha$	II
$\tan(180^\circ + \alpha) = \tan \alpha$	$\cos(180^\circ + \alpha) = -\cos \alpha$	$\sin(180^\circ + \alpha) = -\sin \alpha$	III
$\tan(-\alpha) = -\tan \alpha$	$\cos(-\alpha) = \cos \alpha$	$\sin(-\alpha) = -\sin \alpha$	VI
			סימנים

#### זהויות עבור זווית הגדולות מ-360 מעלות:

ניתן להוסיף או להוריד 'סיבובים' שלמים לזווית לפי:

$$\boxed{\sin(\alpha + 360^\circ k) = \sin \alpha} \quad \boxed{\tan(\alpha + 180^\circ k) = \tan \alpha}$$

$$\boxed{\cos(\alpha + 360^\circ k) = \cos \alpha} \quad \boxed{\cot(\alpha + 180^\circ k) = \cot \alpha}$$

כאשר  $k$  הוא מספר שלם מציין את מספר הסיבובים.

## שאלות:

(1) העבר את הביטויים הבאים לביטויים עם זווית ברביע הראשון. אין צורך לחשב את ערך הביטוי:

א. $\sin 120^\circ$	ב. $\cos 150^\circ$
ג. $\tan 160^\circ$	ד. $\cot 130^\circ$
ה. $\sin 215^\circ$	ו. $\cos 245^\circ$
ז. $\tan 230^\circ$	ח. $\cot 200^\circ$
ט. $\sin 300^\circ$	י. $\cos 310^\circ$

(2) חשב את ערכי הביטויים הבאים ע"י שימוש בזהויות המעגל הטריגונומטרי:

א. $\sin 150^\circ$	ב. $\cos 210^\circ$	ג. $\tan 120^\circ$
ד. $\sin 330^\circ$	ה. $\tan 225^\circ$	ו. $\sin 315^\circ$
ז. $\cos 120^\circ$	ח. $\tan(-30^\circ)$	ט. $\cos(-45^\circ)$
י. $\sin 510^\circ$	יא. $\cos 930^\circ$	יב. $\tan(-225^\circ)$

(3) חשב את ערכי הביטויים הבאים ללא שימוש במחשבון:

$$\begin{aligned} \text{א. } & (\sin 240^\circ \cdot \tan 150^\circ + \cos(-60^\circ))^2 \\ \text{ב. } & 8\sin^2 150^\circ \cdot \tan 135^\circ - 2 \cdot \sin 135^\circ \cdot \cos(-135^\circ) \\ \text{ג. } & \frac{\cot 225^\circ}{\sin(-225^\circ) - \cos 135^\circ} + \tan^2 210^\circ \end{aligned}$$

(4) הוכח כי אם  $\alpha, \beta$  ו- $\gamma$  הן זוויות במשולש, אז מתקיים:

$$\begin{aligned} \text{א. } & \sin(\alpha + \beta) = \sin \gamma \\ \text{ב. } & \sin\left(\frac{\gamma + \beta}{2}\right) = \cos \frac{\alpha}{2} \end{aligned}$$

**תשובות סופיות:**

- |                          |                                       |                          |                         |
|--------------------------|---------------------------------------|--------------------------|-------------------------|
| $-\cot 50^\circ$ .ד      | $-\tan 20^\circ$ .ג                   | $-\cos 30^\circ$ .ב      | $\sin 60^\circ$ .א (1   |
| $\cot 20^\circ$ .ח       | $\tan 50^\circ$ .ז                    | $-\cos 65^\circ$ .ו      | $-\sin 35^\circ$ .ה     |
|                          |                                       | $\cos 50^\circ$ .י       | $-\sin 60^\circ$ .ט     |
| $-\frac{1}{2}$ .ד        | $-\sqrt{3}$ .ג                        | $-\frac{\sqrt{3}}{2}$ .ב | $\frac{1}{2}$ .א (2     |
| $-\frac{\sqrt{3}}{3}$ .ח | $-\frac{1}{2}$ .ז                     | $-\frac{\sqrt{2}}{2}$ .ו | 1 .ה                    |
| $-1$ .יב                 | $-\frac{\sqrt{3}}{2}$ .יא             | $\frac{1}{2}$ .י         | $\frac{\sqrt{2}}{2}$ .ט |
|                          | $\frac{1}{\sqrt{2}} + \frac{1}{3}$ .ג | $-1$ .ב                  | 1 .א (3                 |
- (4) שאלת הוכחה.

## סכום והפרש זוויות:

### סיכום כללי:

סכום והפרש עבור  $\sin(\alpha \pm \beta)$  ו- $\cos(\alpha \pm \beta)$  יחושב לפי:

$$\begin{aligned} \sin(\alpha \pm \beta) &= \sin \alpha \cos \beta \pm \sin \beta \cos \alpha \\ \cos(\alpha \pm \beta) &= \cos \alpha \cos \beta \mp \sin \alpha \sin \beta \end{aligned}$$

סכום והפרש עבור  $\tan(\alpha \pm \beta)$  ו- $\cot(\alpha \pm \beta)$

$$\begin{aligned} \tan(\alpha \pm \beta) &= \frac{\tan \alpha \pm \tan \beta}{1 \mp \tan \alpha \tan \beta} \\ \cot(\alpha \pm \beta) &= \frac{\cot \alpha \cot \beta \mp 1}{\cot \beta \pm \cot \alpha} \end{aligned}$$

### הערה:

בסרטון התיאוריה אין התייחסות מיוחדת לזהויות עבור  $\tan(\alpha \pm \beta)$  ו- $\cot(\alpha \pm \beta)$ .

### שאלות:

1) חשב את ערכי הביטויים הבאים תוך שימוש בזהויות של סכום והפרש זוויות וללא שימוש במחשבון:

- |                       |                     |                       |
|-----------------------|---------------------|-----------------------|
| א. $\sin 75^\circ$    | ב. $\sin 15^\circ$  | ג. $\sin 105^\circ$   |
| ד. $\sin(-15^\circ)$  | ה. $\cos 75^\circ$  | ו. $\cos 15^\circ$    |
| ז. $\cos(-105^\circ)$ | ח. $\cos 165^\circ$ | ט. $\cos(-195^\circ)$ |

2) חשב ללא שימוש במחשבון את ערכי הביטויים הבאים:

- א.  $\sin 65^\circ \cos 25^\circ + \sin 25^\circ \cos 65^\circ$   
 ב.  $5 \cos 50^\circ \cos 20^\circ + 5 \sin 50^\circ \sin 20^\circ$

(3) הוכח את הזהויות הבאות :

$$\text{א. } \sin(60^\circ + \alpha) + \sin(60^\circ - \alpha) = \sqrt{3} \cos \alpha$$

$$\text{ב. } \cos(45^\circ - \alpha) - \cos(45^\circ + \alpha) = \sqrt{2} \sin \alpha$$

$$\text{ג. } \sin(\alpha + \beta) \cdot \sin(\alpha - \beta) = \sin^2 \alpha - \sin^2 \beta$$

$$\text{ד. } \tan \alpha - \tan \beta = \frac{\sin(\alpha - \beta)}{\cos \alpha \cos \beta}$$

(4) נתון:  $\cos \alpha = \frac{4}{5}$ ,  $\cos \beta = \frac{8}{17}$  ו- $\alpha, \beta$  זוויות חדות.מבלי למצוא את הערכים של  $\alpha$  ו- $\beta$  חשב :

$$\text{א. } \sin(\alpha + \beta)$$

$$\text{ב. } \cos(\alpha + \beta)$$

$$\text{ג. } \tan(\alpha + \beta)$$

(5) הוכח את הזהות:  $\sin(\alpha + \beta) - \sin(\alpha - \beta) = 2 \sin \beta \cos \alpha$ (6) הוכח את הזהות:  $(\sin \alpha + \cos \alpha)(\sin 2\alpha + \cos 2\alpha) = \sin 3\alpha + \cos \alpha$ (7) הוכח את הזהות:  $\tan 7\alpha - \tan 5\alpha - \tan 2\alpha = \tan 7\alpha \tan 5\alpha \tan 2\alpha$ (8) הוכח את הזהות:  $\frac{\sin(\alpha - \beta)}{\cos(\alpha + \beta)} = \frac{\tan \alpha - \tan \beta}{1 - \tan \alpha \tan \beta}$ (9) הוכח את הזהות:  $\cot \alpha - \cot \beta = \frac{\sin(\beta - \alpha)}{\sin \alpha \sin \beta}$ 

(10) הוכח את הזהות הבאה :

$$\sin \alpha \cos \beta \cos \gamma + \cos \alpha \sin \beta \cos \gamma + \cos \alpha \cos \beta \sin \gamma - \sin \alpha \sin \beta \sin \gamma = \sin(\alpha + \beta + \gamma)$$

(11) הוכח כי מתקיים:  $\sin 65^\circ \cos 25^\circ + \sin 25^\circ \cos 65^\circ = 1$

(12) הוכח כי מתקיים:  $\tan 18^\circ \tan 27^\circ + \tan 18^\circ + \tan 27^\circ = 1$

(13) נתון כי:  $\sin 76^\circ = m$ . הבע את  $\sin 31^\circ$  באמצעות  $m$ .

(14) הזוויות  $\alpha$  ו- $\beta$  הן זוויות חדות.

נתון כי:  $\tan \beta = \frac{(2k-1)\sqrt{3}}{3}$  ו-  $\tan \alpha = \frac{(2-k)\sqrt{3}}{3k}$

הראה כי מתקיים:  $\alpha + \beta = 60^\circ$ .

(15) היעזר בנוסחה:  $\tan(\alpha \pm \beta) = \frac{\tan \alpha \pm \tan \beta}{1 \mp \tan \alpha \tan \beta}$  ומצא את  $\tan x$  ו-  $\tan y$

אם ידוע כי:  $\tan(x+y) = -3$  ו-  $\tan(x-y) = \frac{1}{3}$ . הבחן בין שני מקרים.

## תשובות סופיות:

$$(1) \quad \begin{array}{llll} \text{א. } \frac{\sqrt{6}+\sqrt{2}}{4} & \text{ב. } \frac{\sqrt{6}-\sqrt{2}}{4} & \text{ג. } \frac{\sqrt{6}+\sqrt{2}}{4} & \text{ד. } \frac{\sqrt{2}-\sqrt{6}}{4} \\ \text{ו. } \frac{\sqrt{6}+\sqrt{2}}{4} & \text{ז. } \frac{\sqrt{2}-\sqrt{6}}{4} & \text{ח. } -\frac{\sqrt{6}+\sqrt{2}}{4} & \text{ט. } -\frac{\sqrt{6}+\sqrt{2}}{4} \\ \text{י. } \frac{\sqrt{6}-\sqrt{2}}{4} & \text{יא. } \frac{\sqrt{6}-\sqrt{2}}{4} & \text{יב. } \frac{\sqrt{2}-\sqrt{6}}{4} & \text{יג. } \frac{\sqrt{2}-\sqrt{6}}{4} \end{array}$$

$$(2) \quad \begin{array}{ll} \text{א. } 1 & \text{ב. } \frac{5\sqrt{3}}{2} \end{array}$$

(3) שאלת הוכחה.

$$(4) \quad \begin{array}{ll} \text{א. } \frac{84}{85} & \text{ב. } -\frac{13}{85} \\ \text{ג. } -6\frac{6}{13} & \end{array}$$

(5) שאלת הוכחה.

(6) שאלת הוכחה.

(7) שאלת הוכחה.

(8) שאלת הוכחה.

(9) שאלת הוכחה.

(10) שאלת הוכחה.

(11) שאלת הוכחה.

(12) שאלת הוכחה.

(13) שאלת הוכחה.

$$(14) \quad \frac{\sqrt{2}}{2} (m - \sqrt{1-m^2})$$

(15) שאלת הוכחה.

$$(16) \quad 1 \text{ ו-} 2 \text{ או } -\frac{1}{2} \text{ ו-} -1.$$

## זווית כפולה:

### סיכום כללי:

נפתח זווית כפולה לפי הצורות הבאות:

$$\begin{aligned} \sin 2\alpha &= 2\sin \alpha \cos \alpha \\ \cos 2\alpha &= \cos^2 \alpha - \sin^2 \alpha = 2\cos^2 \alpha - 1 = 1 - 2\sin^2 \alpha \end{aligned}$$

### שאלות:

(1) הוכח את הזהויות הבאות:

- |   |   |
|---|---|
| א. $4\sin \alpha \cos \alpha \cos 2\alpha = \sin 4\alpha$                               | ב. $(\sin \alpha - \cos \alpha)^2 = 1 - \sin 2\alpha$   |
| ג. $(\sin 3\alpha - \cos 3\alpha)^2 = 1 - \sin 6\alpha$                                 | ד. $\cos^4 \alpha - \sin^4 \alpha = \cos 2\alpha$   |
| ה. $\frac{\cos \alpha}{\sin \alpha} - \frac{\sin \alpha}{\cos \alpha} = 2 \cot 2\alpha$ | ו. $\frac{\cos 2\alpha - 2\sin^2 \alpha \cos 2\alpha}{\sin 4\alpha} = \frac{1}{2} \cot 2\alpha$ |
| ז. $\cos^2 2\alpha = 4\sin^4 \alpha - 4\sin^2 \alpha + 1$                               | ח. $\cos 4\alpha = 8\cos^4 \alpha - 8\cos^2 \alpha + 1$   |

(2) הוכח את הזהות:  $\sin^3 \alpha = \frac{3\sin \alpha - \sin 3\alpha}{4}$  ע"י כתיבה של  $\sin 3\alpha$

לפי:  $\sin(\alpha + 2\alpha)$  ושימוש בזהויות שנלמדו.

(3) הוכח את הזהות:  $\cos^3 \alpha = \frac{3\cos \alpha + \cos 3\alpha}{4}$  ע"י כתיבה של  $\cos 3\alpha$

לפי:  $\cos(\alpha + 2\alpha)$  ושימוש בזהויות שנלמדו.

(4) נתונה זווית חדה  $\alpha$  המקיימת:  $\sin \alpha = \frac{40}{41}$ . מבלי להיעזר במחשבון חשב:

א.  $\cos \alpha$

ב.  $\tan \alpha$

ג.  $\sin 2\alpha$

ד.  $\cos 2\alpha$

ה.  $\tan 2\alpha$

(5) נתונה זווית חדה  $\alpha$  המקיימת:  $\tan \alpha = \frac{5}{12}$ . מבלי להיעזר במחשבון חשב:

א.  $\sin \alpha$

ב.  $\cos \alpha$

ג.  $\sin 2\alpha$

ד.  $\cos 2\alpha$

(6) נתונה זווית  $\alpha$  ברביע הראשון וזווית  $\beta$  ברביע השני המקיימות:  $\sin \alpha = \frac{5}{13}$

ו- $\cos \beta = -0.8$ . מבלי למצוא את  $\alpha$  ו- $\beta$  חשב את הביטויים הבאים:

א.  $\sin(\alpha + \beta)$

ב.  $\cos(\alpha + \beta)$

ג.  $\sin(2\alpha + \beta)$

(7) נתון כי  $\sin \alpha + \cos \alpha = 1.2$  עבור  $0^\circ < \alpha < 90^\circ$ . חשב את  $\sin 2\alpha$ .

(8) פשט את הביטוי הבא:  $\sqrt{\frac{1 + \cos 8\alpha}{2}}$

(9) ללא שימוש במחשבון, חשב את ערך הביטוי הבא:  $\frac{\sin 16^\circ \cos 16^\circ}{3 - 6 \sin^2 29^\circ}$

(10) ללא שימוש במחשבון, חשב את ערך הביטוי הבא:  $\frac{\sin^2 78^\circ - \cos^2 78^\circ}{\sin 66^\circ}$

(11) ללא שימוש במחשבון, חשב את ערך הביטוי הבא:  $\frac{5 \tan 15^\circ (1 - 2 \cos^2 15^\circ)}{1 - \tan^2 15^\circ}$

## תשובות סופיות:

(1) שאלת הוכחה.

(2) שאלת הוכחה.

(3) שאלת הוכחה.

$$(4) \quad \begin{array}{ll} \text{א. } \frac{9}{41} & \text{ב. } 4\frac{4}{9} \\ \text{ג. } \frac{720}{1681} & \text{ד. } -\frac{1519}{1681} \end{array}$$

$$\text{ה. } -\frac{720}{1519}$$

$$(5) \quad \begin{array}{ll} \text{א. } \frac{5}{13} & \text{ב. } \frac{12}{13} \\ \text{ג. } \frac{120}{169} & \text{ד. } \frac{119}{169} \end{array}$$

$$(6) \quad \begin{array}{ll} \text{א. } \frac{16}{65} & \text{ב. } -\frac{63}{65} \\ \text{ג. } -\frac{123}{845} & \end{array}$$

(7) .0.44

(8)  $\cos 4\alpha$ .

(9)  $\frac{1}{6}$ .

(10) .1

(11) .-1.25

## סכום והפרש פונקציות טריגונומטריות:

### סיכום כללי:

להלן נוסחאות הסכום וההפרש של פונקציות טריגונומטריות:

$$\begin{aligned} \sin \alpha + \sin \beta &= 2 \sin \frac{\alpha + \beta}{2} \cos \frac{\alpha - \beta}{2} \\ \sin \alpha - \sin \beta &= 2 \sin \frac{\alpha - \beta}{2} \cos \frac{\alpha + \beta}{2} \\ \cos \alpha + \cos \beta &= 2 \cos \frac{\alpha + \beta}{2} \cos \frac{\alpha - \beta}{2} \\ \cos \alpha - \cos \beta &= -2 \sin \frac{\alpha + \beta}{2} \sin \frac{\alpha - \beta}{2} \end{aligned}$$

### הערה:

בסרטון התיאוריה אין התייחסות לזהויות הסכום וההפרש של טנגנס ושל קוטנגנס עקב חוסר השימוש בהן בפתרון שאלות.

### שאלות:

- (1) הוכח את הזהות הבאה:  $\sin 5\alpha + \sin 3\alpha = 2 \sin 4\alpha \cos \alpha$
- (2) הוכח את הזהות הבאה:  $\sin 7\alpha - \sin 2\alpha = 2 \sin 2.5\alpha \cos 4.5\alpha$
- (3) הוכח את הזהות הבאה:  $\cos \alpha + \cos 5\alpha = 2 \sin 2\alpha \cos 3\alpha$
- (4) הוכח את הזהות הבאה:  $\cos 5\alpha - \cos 2\alpha = -2 \sin 3.5\alpha \cos 1.5\alpha$
- (5) הוכח את הזהות הבאה:  $\sin 3\alpha = 2 \sin 2\alpha \cos \alpha - \sin \alpha$
- (6) הוכח את הזהות הבאה:  $\sin^2 \alpha - \sin^2 \beta = \sin(\alpha + \beta) \sin(\alpha - \beta)$
- (7) הוכח את הזהות הבאה:  $\sin(2\alpha + \beta) - 2 \cos(\alpha + \beta) \sin \alpha = \sin \beta$
- (8) הוכח את הזהות הבאה:  $\frac{\sin 5\alpha - \sin \alpha}{\sin 4\alpha - \sin 2\alpha} = 2 \cos \alpha$

$$(9) \quad \frac{\sin 7\alpha - \sin 3\alpha}{\cos 4\alpha + \cos 6\alpha} = 2 \sin \alpha \quad \text{הוכח את הזהות הבאה:}$$

$$(10) \quad \frac{\sin \alpha + \sin 2\alpha + \sin 3\alpha}{\cos \alpha + \cos 2\alpha + \cos 3\alpha} = \tan 2\alpha \quad \text{הוכח את הזהות הבאה:}$$

$$(11) \quad \tan \alpha + \tan 3\alpha = \frac{2 \sin 4\alpha}{\cos 4\alpha + \cos 2\alpha} \quad \text{הוכח את הזהות הבאה:}$$

$$(12) \quad \text{פשט את הביטוי: } \frac{1 + \cos \alpha + \cos 2\alpha + \cos 3\alpha}{\cos \alpha + 2 \cos^2 \alpha - 1} \quad \text{ומצא את ערכו מבלי להיעזר}$$

$$\text{במחשבון אם ידוע כי } \sin \frac{\alpha}{2} = \frac{5}{6}$$

$$(13) \quad \text{נתון כי } \alpha \text{ ו-} \beta \text{ הן זוויות חדות המקיימות: } \sin \alpha = \frac{2mn}{m^2 + n^2} \text{ ו-} \sin \beta = \frac{n^2 - m^2}{m^2 + n^2}$$

$$\text{הראה כי: } \alpha + \beta = 90^\circ$$

$$(14) \quad \text{היעזר במעבר מכפל לסכום או הפרש}$$

$$\text{והוכח כי: } \cos 6\alpha \cos 2\alpha - \cos 5\alpha \cos \alpha = -\sin 7\alpha \sin \alpha$$

$$(15) \quad \text{היעזר במעבר מכפל לסכום או הפרש}$$

$$\text{והוכח כי: } \sin 4\alpha \sin 2\alpha - \sin 5\alpha \sin \alpha + \cos 3\alpha \cos \alpha = \cos 2\alpha$$

$$(16) \quad \text{חשב ללא מחשבון את ערך הביטוי הבא: } \sin 52.5^\circ \cdot \sin 7.5^\circ$$

$$(17) \quad \text{חשב ללא מחשבון את ערך הביטוי הבא: } \frac{\sin 35^\circ \sin 55^\circ}{\cos 40^\circ \cos 20^\circ - 0.25}$$

$$(18) \quad \text{חשב ללא מחשבון את ערך הביטוי הבא: } \cos 20^\circ \cos 40^\circ \cos 80^\circ$$

$$(19) \quad \text{חשב ללא מחשבון את ערך הביטוי הבא: } \sin 5^\circ \cdot \sin 25^\circ \cdot \sin 35^\circ \cdot \sin 55^\circ \cdot \sin 65^\circ \cdot \sin 85^\circ$$

**תשובות סופיות:**

(1) שאלת הוכחה.

(2) שאלת הוכחה.

(3) שאלת הוכחה.

(4) שאלת הוכחה.

(5) שאלת הוכחה.

(6) שאלת הוכחה.

(7) שאלת הוכחה.

(8) שאלת הוכחה.

(9) שאלת הוכחה.

(10) שאלת הוכחה.

(11) שאלת הוכחה.

(12)  $-\frac{7}{9}$ .

(13) שאלת הוכחה.

(14) שאלת הוכחה.

(15) שאלת הוכחה.

(16)  $\frac{\sqrt{2}-1}{4}$ .

(17) .1

(18)  $\frac{1}{8}$ .(19)  $\frac{1}{64}$ .

## מכפלת פונקציות:

### סיכום כללי:

להלן נוסחאות המעבר מסכום למכפלה וממכפלה לסכום:

$$\left\{ \begin{array}{l} \sin \alpha + \sin \beta = 2 \sin \frac{\alpha + \beta}{2} \cos \frac{\alpha - \beta}{2} \\ \sin \alpha - \sin \beta = 2 \sin \frac{\alpha - \beta}{2} \cos \frac{\alpha + \beta}{2} \\ \cos \alpha + \cos \beta = 2 \cos \frac{\alpha + \beta}{2} \cos \frac{\alpha - \beta}{2} \\ \cos \alpha - \cos \beta = -2 \sin \frac{\alpha + \beta}{2} \sin \frac{\alpha - \beta}{2} \end{array} \right. \quad \left\{ \begin{array}{l} \sin \alpha \cos \beta = \frac{1}{2} [\sin(\alpha + \beta) + \sin(\alpha - \beta)] \\ \cos \alpha \cos \beta = \frac{1}{2} [\cos(\alpha + \beta) + \cos(\alpha - \beta)] \\ \sin \alpha \sin \beta = \frac{1}{2} [\cos(\alpha - \beta) - \cos(\alpha + \beta)] \end{array} \right.$$

### שאלות:

- (1) הוכח את הזהות הבאה:  $\sin 7\alpha \cos \alpha = \frac{1}{2}(\sin 8\alpha + \sin 6\alpha)$
- (2) הוכח את הזהות הבאה:  $\cos 11\alpha \sin 3\alpha = \frac{1}{2}(\sin 14\alpha - \sin 8\alpha)$
- (3) הוכח את הזהות הבאה:  $\cos 4\alpha \cos 10\alpha = \frac{1}{2}(\cos 6\alpha + \cos 14\alpha)$
- (4) הוכח את הזהות הבאה:  $\sin 3\alpha \sin 7\alpha = \frac{1}{2}(\cos 4\alpha - \cos 10\alpha)$
- (5) הוכח את הזהות הבאה:  $2 \sin 7\alpha \sin 2\alpha + \cos 9\alpha = \cos 5\alpha$
- (6) הוכח את הזהות הבאה:  $\sin 7\alpha \cos 4\alpha - \sin 4\alpha \cos \alpha = \sin 3\alpha \cos 8\alpha$
- (7) הוכח את הזהות הבאה:  $\sin \alpha \sin 3\alpha = \cos 2\alpha - \cos 3\alpha \cos \alpha$
- (8) הוכח את הזהות הבאה:  $2(\sin^2 \beta - \sin^2 \alpha) = \cos 2\alpha - \cos 2\beta$
- (9) הוכח את הזהות הבאה:  $\frac{2}{\cot \beta - \tan \alpha} = \tan(\alpha + \beta) - \frac{\sin(\alpha - \beta)}{\cos(\alpha + \beta)}$

**תשובות סופיות:**

- (1) הוכחה.
- (2) הוכחה.
- (3) הוכחה.
- (4) הוכחה.
- (5) הוכחה.
- (6) הוכחה.
- (7) הוכחה.
- (8) הוכחה.
- (9) הוכחה.

# מכינה למבחן פטור (חדוא 0)

## פרק 10 - משוואות טריגונומטריות

### תוכן העניינים

171	1. משוואות טריגונומטריות כלליות
174	2. משוואות הנפתרות עי טכניקה אלגברית
176	3. משוואות הנפתרות על ידי זהויות יסוד
178	4. משוואות הנפתרות על ידי זהויות של מעגל היחידה
179	5. משוואות הנפתרות על ידי חלוקה בקוסינוס
180	6. משוואות הנפתרות על ידי זהויות של סכום והפרש זוויות
181	7. משוואות הנפתרות על ידי זהויות של זווית כפולה
182	8. משוואות מהצורה $a \sin(x) + b \cos(x) = c$
183	9. משוואות הנפתרות על ידי זהויות של סכום והפרש פונקציות
185	10. משוואות עם תחום נתון
186	11. משוואות עם זוויות ברדיאנים
190	12. אי שוויונים טריגונומטריים

## משוואות טריגונומטריות כלליות:

### סיכום כללי:

פתרון כללי של משוואות טריגונומטריות (במעלות):

להלן נוסחאות הפתרון של המשוואות הטריגונומטריות היסודיות  
 כאשר  $x$  הוא משתנה ו- $\alpha$  היא זווית נתונה/ידועה:

המשוואה	הפתרון
$\sin x = \sin \alpha$	$x_1 = \alpha + 360^\circ k$ , $x_2 = 180^\circ - \alpha + 360^\circ k$
$\cos x = \cos \alpha$	$x_{1,2} = \pm \alpha + 360^\circ k$
$\tan x = \tan \alpha$	$x = \alpha + 180^\circ k$
$\cot x = \cot \alpha$	$x = \alpha + 180^\circ k$

כאשר  $k$  מספר שלם.

### שאלות:

(1) כתוב את הפתרון הכללי של המשוואות הבאות (פונקציית הסינוס):

$$\text{א. } \sin x = \frac{1}{2} \quad \text{ב. } \sin x = \frac{\sqrt{2}}{2} \quad \text{ג. } \sin x = -\frac{\sqrt{3}}{2} \quad \text{ד. } \sin x = -\frac{1}{2}$$

(2) כתוב את הפתרון הכללי של המשוואות הבאות (פונקציית הקוסינוס):

$$\text{א. } \cos x = \frac{1}{2} \quad \text{ב. } \cos x = -\frac{\sqrt{3}}{2}$$

(3) כתוב את הפתרון הכללי של המשוואות הבאות (פונקציית הטנגנס):

$$\text{א. } \tan x = \frac{1}{\sqrt{3}} \quad \text{ב. } \tan x = -1$$

(4) כתוב את הפתרון הכללי של המשוואות הבאות (זווית כללית):

א.  $\sin x = 0.7$       ב.  $\cos x = -0.6$       ג.  $\tan x = 5$

(5) כתוב את הפתרון הכללי של המשוואות הבאות (משוואות לא מסודרות):

א.  $\sin 3x = \frac{1}{2}$       ב.  $2 \cos 2x = -\sqrt{3}$

ג.  $\tan 5x = -1$       ד.  $3 \sin 2x = 2$

ה.  $3 \cos 3x = 1$       ו.  $2 \tan 4x = 1$

(6) כתוב את הפתרון הכללי של המשוואות הבאות (ארגומנט מורכב):

א.  $\sin(2x + 30^\circ) = -\frac{\sqrt{3}}{2}$       ב.  $\cos(75^\circ - 3x) = \frac{\sqrt{2}}{2}$       ג.  $\tan(50^\circ - x) = 1.3$

(7) כתוב את הפתרון הכללי של המשוואות הבאות (פונקציות עם ארגומנטים שונים):

א.  $\sin x = \sin 3x$       ב.  $\sin 2x = \sin(x + 30^\circ)$

ג.  $\sin x = \sin(120^\circ - x)$       ד.  $\cos x = \cos 3x$

ה.  $\cos x = \cos(40^\circ - x)$       ו.  $\tan x = \tan 3x$

ז.  $\tan 2x = \tan(60^\circ - x)$

(8) כתוב את הפתרון הכללי של המשוואות הבאות (משוואות מיוחדות):

א.  $\sin x = 0$       ב.  $\sin x = 1$

ג.  $\sin x = -1$       ד.  $\cos x = 0$

ה.  $\cos x = 1$       ו.  $\cos x = -1$

ז.  $\tan x = 0$       ח.  $\tan x = 1$

## תשובות סופיות:

- (1) א.  $x_1 = 30^\circ + 360^\circ k$ ,  $x_2 = 150^\circ + 360^\circ k$     ב.  $x_1 = 45^\circ + 360^\circ k$ ,  $x_2 = 135^\circ + 360^\circ k$
- ג.  $x_1 = -60^\circ + 360^\circ k$ ,  $x_2 = 240^\circ + 360^\circ k$     ד.  $x_1 = -30^\circ + 360^\circ k$ ,  $x_2 = 210^\circ + 360^\circ k$
- (2) א.  $x_{1,2} = \pm 60^\circ + 360^\circ k$     ב.  $x_{1,2} = \pm 150^\circ + 360^\circ k$
- (3) א.  $x = 30^\circ + 180^\circ k$     ב.  $x = 135^\circ + 180^\circ k$
- (4) א.  $x_1 = 44.427^\circ + 360^\circ k$ ,  $x_2 = 135.573^\circ + 360^\circ k$     ב.  $x_{1,2} = 126.87^\circ + 360^\circ k$
- ג.  $x = 78.69^\circ + 180^\circ k$
- (5) א.  $x_1 = 10^\circ + 120^\circ k$ ,  $x_2 = 50^\circ + 120^\circ k$     ב.  $x_1 = 75^\circ + 180^\circ k$ ,  $x_2 = -75^\circ + 180^\circ k$
- ג.  $x = -9^\circ + 36^\circ k$     ד.  $x_1 = 20.9^\circ + 180^\circ k$ ,  $x_2 = 69.09^\circ + 180^\circ k$
- ה.  $x_{1,2} = \pm 23.5^\circ + 120^\circ k$     ו.  $x = 6.64^\circ + 45^\circ k$
- (6) א.  $x_1 = 105^\circ + 180^\circ k$ ,  $x_2 = -45^\circ + 180^\circ k$     ב.  $x_1 = 10^\circ + 120^\circ k$ ,  $x_2 = 40^\circ + 120^\circ k$
- ג.  $x = -2.431^\circ + 180^\circ k$     ד.  $x_1 = 180^\circ k$ ,  $x_2 = 45^\circ + 90^\circ k$
- (7) א.  $x = 60^\circ + 180^\circ k$     ב.  $x = 90^\circ k$
- ה.  $x = 20^\circ + 180^\circ k$     ו.  $x = 20^\circ + 60^\circ k$
- (8) א.  $x = 180^\circ k$     ב.  $x = 90^\circ + 360^\circ k$     ג.  $x = 180^\circ + 360^\circ k$
- ד.  $x = 90^\circ + 180^\circ k$     ה.  $x = 360^\circ k$     ו.  $x = 180^\circ + 360^\circ k$
- ז.  $x = 180^\circ k$     ח.  $x = 45^\circ + 180^\circ k$

## משוואות הנפתרות ע"י טכניקה אלגברית:

### סיכום כללי:

נעזר בטכניקה אלגברית בכדי להביא משוואה מורכבת לצורה של משוואה יסודית.

### טכניקות שכיחות:

- הוצאת שורש ריבועי.
- פירוק לגורמים (ע"י הוצאת גורם משותף, ע"י נוסחאות הכפל המקוצר וע"י פירוק טרינום).
- פתרון משוואה ריבועית.

### שאלות:

כתוב את הפתרון הכללי של המשוואות הבאות (טכניקה אלגברית):

$$\sin^2 x = \frac{1}{4} \quad (2) \qquad \cos^2 x = \frac{3}{4} \quad (1)$$

$$\sin x \cos 3x = 0 \quad (4) \qquad \tan^2 2x = 3 \quad (3)$$

$$2 \cos^2 x + \sqrt{3} \cos x = 0 \quad (6) \qquad \sin 2x - 2 \sin^2 2x = 0 \quad (5)$$

$$3 \sin^2 x - \sin x = 2 \quad (8) \qquad 2 \sin^2 x - \sin x - 1 = 0 \quad (7)$$

$$\cos^2 x + 2 \cos x = 3 \quad (10) \qquad 6 \sin^2 x - \sin x - 1 = 0 \quad (9)$$

$$\tan^2 x = 4 \tan x - 1 \quad (12) \qquad \tan^2 x - 3 \tan x - 4 = 0 \quad (11)$$

$$\frac{\sin x}{\cos x - 1} = 0 \quad (14) \qquad \cos x - \frac{2}{\cos x} + 1 = 0 \quad (13)$$

$$\frac{\cos 2x}{\tan x + 1} = 0 \quad (15)$$

## תשובות סופיות:

$$\cdot x_{1,2} = \pm 30^\circ + 360^\circ k, x_{3,4} = \pm 150^\circ + 360^\circ k \quad (1)$$

$$\cdot x_1 = 30^\circ + 360^\circ k, x_2 = 150^\circ + 360^\circ k, x_3 = 330^\circ + 360^\circ k, x_4 = 210^\circ + 360^\circ k \quad (2)$$

$$\cdot x_1 = 30^\circ + 90^\circ k, x_2 = -30^\circ + 90^\circ k \quad (3)$$

$$\cdot x_1 = 180^\circ k, x_2 = 30^\circ + 60^\circ k \quad (4)$$

$$\cdot x_1 = 90^\circ k, x_2 = 15^\circ + 180^\circ k, x_3 = 75^\circ + 180^\circ k \quad (5)$$

$$\cdot x_1 = 90^\circ + 180^\circ k, x_{2,3} = \pm 150^\circ + 360^\circ k \quad (6)$$

$$\cdot x_1 = 90^\circ + 360^\circ k, x_2 = 210^\circ + 360^\circ k, x_3 = -30^\circ + 360^\circ k \quad (7)$$

$$\cdot x_1 = 90^\circ + 360^\circ k, x_2 = -41.8^\circ + 360^\circ k, x_3 = 221.8^\circ + 360^\circ k \quad (8)$$

$$\cdot x_1 = 30^\circ + 360^\circ k, x_2 = 150^\circ + 360^\circ k, x_3 = -19.4^\circ + 360^\circ k, x_4 = 199.4^\circ + 360^\circ k \quad (9)$$

$$\cdot x = 360^\circ k \quad (10)$$

$$\cdot x_1 = -45^\circ + 180^\circ k, x_2 = 75.964^\circ + 180^\circ k \quad (11)$$

$$\cdot x_1 = 75^\circ + 180^\circ k, x_2 = 15^\circ + 180^\circ k \quad (12)$$

$$\cdot x = 360^\circ k \quad (13)$$

$$\cdot x = 180^\circ + 360^\circ k \quad (14)$$

$$\cdot x = 45^\circ + 90^\circ k, x \neq -45^\circ + 180^\circ k \quad (15)$$

## משוואות הנפתרות ע"י זהויות יסוד:

### סיכום כללי:

כאשר משוואה מכילה יותר מפונקציה טריגונומטרית אחת, יש תחילה להעביר אותה למשוואה שקולה המכילה פונקציה טריגונומטרית אחת. לאחר מכן ניתן לבצע פעולות אלגבריות בכדי לקבל משוואות יסודיות ולכתוב את הפתרון עבור כל אחת. לשם כך נעזר בזהויות טריגונומטריות.

### תזכורת – זהויות היסוד הטריגונומטריות:

$\sin^2 \alpha + \cos^2 \alpha = 1$ $\tan \alpha \cdot \cot \alpha = 1$	$\tan \alpha = \frac{\sin \alpha}{\cos \alpha}$ , $\cot \alpha = \frac{\cos \alpha}{\sin \alpha}$	קשרים בין פונקציות
$\sin \alpha = \cos(90^\circ - \alpha)$	$\cos \alpha = \sin(90^\circ - \alpha)$	זוויות משלימות ל- $90^\circ$
$\tan \alpha = \cot(90^\circ - \alpha)$	$\cot \alpha = \tan(90^\circ - \alpha)$	
$\tan^2 \alpha + 1 = \frac{1}{\cos^2 \alpha}$	$\cot^2 \alpha + 1 = \frac{1}{\sin^2 \alpha}$	קשרים בין פונקציות

### שאלות:

כתוב את הפתרון הכללי של המשוואות הבאות:

$$\sin x = \cos(x + 45^\circ) \quad (2)$$

$$\sin x = \cos x \quad (1)$$

$$2 \cos^2 x = 3 \sin x \quad (4)$$

$$\cos x = \frac{2}{3} \sin^2 x \quad (3)$$

$$\cos^2 x - \sin^2 x = \sin x \quad (6)$$

$$\sin^2 x - \cos x = \frac{1}{4} \quad (5)$$

$$\sin x - \tan x = 0 \quad (8)$$

$$\sin^2 x + 2 \cos^2 x = 1.5 \quad (7)$$

**תשובות סופיות:**

$$\cdot x = 45^\circ + 180^\circ k \quad \mathbf{(1)}$$

$$\cdot x = 22.5^\circ + 180^\circ k \quad \mathbf{(2)}$$

$$\cdot x_{1,2} = \pm 60^\circ + 360^\circ k \quad \mathbf{(3)}$$

$$\cdot x_1 = 30^\circ + 360^\circ k, x_2 = 150^\circ + 360^\circ k \quad \mathbf{(4)}$$

$$\cdot x_{1,2} = \pm 60^\circ + 360^\circ k \quad \mathbf{(5)}$$

$$x_1 = 30^\circ + 120^\circ k, x_2 = -90^\circ + 360^\circ k \quad \mathbf{(6)}$$

$$\cdot x_{1,2} = \pm 45^\circ + 360^\circ k, x_{3,4} = \pm 135^\circ + 360^\circ k \quad \mathbf{(7)}$$

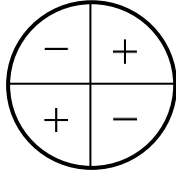
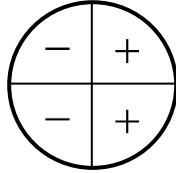
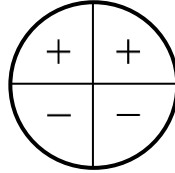
$$\cdot x = 180^\circ k \quad \mathbf{(8)}$$

## משוואות הנפתרות ע"י זהויות של מעגל היחידה:

### סיכום כללי:

כאשר משוואה מכילה יותר מפונקציה טריגונומטרית אחת, יש תחילה להעביר אותה למשוואה שקולה המכילה פונקציה טריגונומטרית אחת. לאחר מכן ניתן לבצע פעולות אלגבריות בכדי לקבל משוואות יסודיות ולכתוב את הפתרון עבור כל אחת. לשם כך נעזר בזהויות טריגונומטריות.

### תזכורת – זהויות של מעגל היחידה:

טנגנס	קוסינוס	סינוס	רביע
$\tan(180^\circ - \alpha) = -\tan \alpha$ $\tan(180^\circ + \alpha) = \tan \alpha$ $\tan(-\alpha) = -\tan \alpha$	$\cos(180^\circ - \alpha) = -\cos \alpha$ $\cos(180^\circ + \alpha) = -\cos \alpha$ $\cos(-\alpha) = \cos \alpha$	$\sin(180^\circ - \alpha) = \sin \alpha$ $\sin(180^\circ + \alpha) = -\sin \alpha$	I II III
			סימנים

### זהויות עבור זויות הגדולות מ-360 מעלות:

$$\boxed{\begin{array}{l} \sin(\alpha + 360^\circ k) = \sin \alpha \\ \cos(\alpha + 360^\circ k) = \cos \alpha \end{array}} \quad , \quad \boxed{\begin{array}{l} \tan(\alpha + 180^\circ k) = \tan \alpha \\ \cot(\alpha + 180^\circ k) = \cot \alpha \end{array}}$$

### שאלות:

כתוב את הפתרון הכללי של המשוואות הבאות:

$$\begin{array}{ll} \cos 2x = -\cos 3x & \text{(2)} \\ \sin 3x = -\cos(180^\circ - x) & \text{(4)} \end{array} \quad \begin{array}{ll} \sin x = -\sin 3x & \text{(1)} \\ \sin(x + 30^\circ) = -\cos x & \text{(3)} \end{array}$$

### תשובות סופיות:

$$\begin{array}{ll} x_1 = 180^\circ + 360^\circ k, x_2 = 36^\circ + 72^\circ k & \text{(2)} \\ x_1 = 22.5^\circ + 90^\circ k, x_2 = 45^\circ + 180^\circ k & \text{(4)} \end{array} \quad \begin{array}{ll} x_1 = 90^\circ k, x_2 = -90^\circ + 180^\circ k & \text{(1)} \\ x = 120^\circ + 180^\circ k & \text{(3)} \end{array}$$

## משוואות הנפתרות על ידי חלוקה בקוסינוס:

### סיכום כללי:

טכניקה יעילה כדי להעביר משוואה מהצורה:  $\sin x = a \cos x$  לפונקציה טריגונומטרית אחת היא ע"י חלוקה ב- $\cos x$  (בתנאי ש- $\cos x \neq 0$ ). כך מתקבלת המשוואה:

$$\sin x = a \cos x \quad / : \cos x \neq 0$$

$$\frac{\sin x}{\cos x} = a \frac{\cos x}{\cos x}$$

$$\tan x = a$$

$$x = \tan^{-1}(a) + 180^\circ k$$

### הערה:

יש לבדוק האם ערכי  $x$  שמקיימים  $\cos x = 0$  מהווים פתרון למשוואה. אם כן אז יש להוסיף אותם לפתרון הסופי.

### שאלות:

כתוב את הפתרון הכללי של המשוואות הבאות:

$$3 \sin x = \cos x \quad (2)$$

$$\sin x = 2 \cos x \quad (1)$$

$$2 \sin x = -5 \cos x \quad (4)$$

$$4 \sin x = 7 \cos x \quad (3)$$

$$3 \sin^2 x = \cos^2 x \quad (6)$$

$$\sin^2 x = 8 \cos^2 x \quad (5)$$

### תשובות סופיות:

$$. x = 63.43^\circ + 180^\circ k \quad (1)$$

$$. x = 18.43^\circ + 180^\circ k \quad (2)$$

$$. x = 60.25^\circ + 180^\circ k \quad (3)$$

$$. x = -68.19^\circ + 180^\circ k \quad (4)$$

$$. x_1 = 70.52^\circ + 180^\circ k, x_2 = -70.52^\circ + 180^\circ k \quad (5)$$

$$. x_1 = 30^\circ + 180^\circ k, x_2 = -30^\circ + 180^\circ k \quad (6)$$

## משוואות הנפתרות על ידי זהויות של סכום והפרש זוויות:

### סיכום כללי:

כאשר משוואה מכילה יותר מפונקציה טריגונומטרית אחת, יש תחילה להעביר אותה למשוואה שקולה המכילה פונקציה טריגונומטרית אחת. לאחר מכן ניתן לבצע פעולות אלגבריות בכדי לקבל משוואות יסודיות ולכתוב את הפתרון עבור כל אחת. לשם כך נעזר בזהויות טריגונומטריות.

### תזכורת – זהויות של סכום והפרש זוויות:

$\sin(\alpha \pm \beta) = \sin \alpha \cos \beta \pm \sin \beta \cos \alpha$ $\cos(\alpha \pm \beta) = \cos \alpha \cos \beta \mp \sin \alpha \sin \beta$	סכום והפרש עבור סינוס וקוסינוס
$\tan(\alpha \pm \beta) = \frac{\tan \alpha \pm \tan \beta}{1 \mp \tan \alpha \tan \beta}$ $\cot(\alpha \pm \beta) = \frac{\cot \alpha \cot \beta \mp 1}{\cot \beta \pm \cot \alpha}$	סכום והפרש עבור טנגנס וקוטנגנס

### שאלות:

כתוב את הפתרון הכללי של המשוואות הבאות:

$$\sin(x + 45^\circ) \sin(x - 45^\circ) = \frac{1}{2} \quad (2)$$

$$3 \cos^2 x - \sin^2 x = \sin 3x \quad (4)$$

$$2 \sin x = \sin(60^\circ - x) \quad (1)$$

$$\frac{\cos 3x}{\sin x} - \frac{\sin 3x}{\cos x} = 2 \quad (3)$$

### תשובות סופיות:

$$. x = 19.11^\circ + 180^\circ k \quad (1)$$

$$. x = 90^\circ + 180^\circ k \quad (2)$$

$$. x = 15^\circ + 60^\circ k \quad (3)$$

$$. x_{1,2} = \pm 60^\circ + 180^\circ k, x_3 = 90^\circ + 360^\circ k \quad (4)$$

## משוואות הנפתרות ע"י זהויות של זווית כפולה:

### סיכום כללי:

כאשר משוואה מכילה יותר מפונקציה טריגונומטרית אחת, יש תחילה להעביר אותה למשוואה שקולה המכילה פונקציה טריגונומטרית אחת. לאחר מכן ניתן לבצע פעולות אלגבריות בכדי לקבל משוואות יסודיות ולכתוב את הפתרון עבור כל אחת. לשם כך נעזר בזהויות טריגונומטריות.

### תזכורת – זהויות של זווית כפולה:

$\sin 2\alpha = 2 \sin \alpha \cos \alpha$	סינוס זווית כפולה
$\cos 2\alpha = \cos^2 \alpha - \sin^2 \alpha = 2 \cos^2 \alpha - 1 = 1 - 2 \sin^2 \alpha$	קוסינוס זווית כפולה

### שאלות:

כתוב את הפתרון הכללי של המשוואות הבאות:

$$\begin{array}{ll} \sqrt{2} \sin x + \sin 2x = 0 & \text{(2)} & \sin x - \sin 2x = 0 & \text{(1)} \\ 2 \cos 2x + \sin 4x = 0 & \text{(4)} & 4 \cos x = \sin 2x & \text{(3)} \\ \cos 2x = 2 \sin x & \text{(6)} & 3 \cos x - \cos 2x = 0 & \text{(5)} \\ 2 \sin^2 x = \cos 2x + 2 & \text{(8)} & \sin x + \cos 2x = 1 & \text{(7)} \end{array}$$

### תשובות סופיות:

$$\begin{array}{ll} x_1 = 180^\circ k, x_{2,3} = \pm 135^\circ + 360^\circ k & \text{(2)} & x_1 = 360^\circ k, x_2 = 60^\circ + 120^\circ k & \text{(1)} \\ x_1 = 45^\circ + 90^\circ k, x_2 = 135^\circ + 180^\circ k & \text{(4)} & x = 90^\circ + 180^\circ k & \text{(3)} \\ x_1 = 21.1^\circ + 360^\circ k, x_2 = 158.9^\circ + 360^\circ k & \text{(6)} & x_{1,2} = \pm 106.307^\circ + 360^\circ k & \text{(5)} \\ x_1 = 180^\circ k, x_2 = 30^\circ + 360^\circ k, x_3 = 150^\circ + 360^\circ k & \text{(7)} & & \\ x_1 = -60^\circ + 360^\circ k, x_2 = 60^\circ + 360^\circ k, x_3 = 120^\circ + 360^\circ k, x_4 = 240^\circ + 360^\circ k & \text{(8)} & & \end{array}$$

## משוואות מהצורה: $a \sin(x) + b \cos(x) = c$

### סיכום כללי:

ניתן להביא משוואה מהצורה:  $a \sin x + b \cos x = c$  לצורה:  $\sin x + \frac{b}{a} \cos x = \frac{c}{a}$ .

מציאת זווית  $\alpha$  המקיימת:  $\alpha = \tan^{-1}\left(\frac{b}{a}\right)$  תאפשר לכתוב:  $\sin x + \tan \alpha \cdot \cos x = \frac{c}{a}$ .

שימוש בזהות:  $\tan \alpha = \frac{\sin \alpha}{\cos \alpha}$  וזהות:  $\sin(\alpha + \beta) = \sin \alpha \cos \beta + \sin \beta \cos \alpha$  יובילו:

$$\sin x + \frac{\sin \alpha}{\cos \alpha} \cdot \cos x = \frac{c}{a} \quad / \cdot \cos \alpha$$

$$\sin x \cos \alpha + \sin \alpha \cos x = \frac{c}{a} \cos \alpha$$

$$\sin(x + \alpha) = \frac{c}{a} \cos \alpha$$

אם נסמן:  $\frac{c}{a} \cos \alpha = k$  נקבל את המשוואה:  $\sin(x + \alpha) = k$  כאשר  $\alpha$  ו- $k$  ידועים. מכאן הפתרון הוא ישיר לפי משוואת סינוס.

### שאלות:

פתור את המשוואות הבאות:

$$5 \cos x - 6 \sin x = 1 \quad (2)$$

$$10 \sin x + 3 \cos x = 5 \quad (1)$$

$$\frac{1}{2} \sin x + \sqrt{3} \cos^2 \frac{x}{2} = \cos \frac{x}{2} \quad (4)$$

$$\sqrt{3} \sin 2x + 3 \cos 2x = \sqrt{12} \quad (3)$$

$$\cos x + \cos(60^\circ + x) = \sqrt{2} + \cos(60^\circ - x) \quad (5)$$

### תשובות סופיות:

$$x_1 = 11.91^\circ + 360^\circ k, x_2 = 134.69^\circ + 360^\circ k \quad (1)$$

$$x = 15^\circ + 180^\circ k \quad (3) \quad x_1 = 227.156^\circ + 360^\circ k, x_2 = 32.44^\circ + 360^\circ k \quad (2)$$

$$x_1 = -60^\circ + 720^\circ k, x_2 = 180^\circ + 360^\circ k \quad (4)$$

$$x_1 = -105^\circ + 360^\circ k, x_2 = 15^\circ + 360^\circ k \quad (5)$$

## משוואות הנפתרות ע"י זהויות של סכום והפרש פונקציות:

### סיכום כללי:

כאשר משוואה מכילה יותר מפונקציה טריגונומטרית אחת, יש תחילה להעביר אותה למשוואה שקולה המכילה פונקציה טריגונומטרית אחת. לאחר מכן ניתן לבצע פעולות אלגבריות בכדי לקבל משוואות יסודיות ולכתוב את הפתרון עבור כל אחת. לשם כך נעזר בזהויות טריגונומטריות.

### תזכורת – זהויות של סכום והפרש פונקציות:

$\sin \alpha + \sin \beta = 2 \sin \frac{\alpha + \beta}{2} \cos \frac{\alpha - \beta}{2}$ $\sin \alpha - \sin \beta = 2 \sin \frac{\alpha - \beta}{2} \cos \frac{\alpha + \beta}{2}$	<b>סכום והפרש פונקציות עבור סינוס</b>
$\cos \alpha + \cos \beta = 2 \cos \frac{\alpha + \beta}{2} \cos \frac{\alpha - \beta}{2}$ $\cos \alpha - \cos \beta = -2 \sin \frac{\alpha + \beta}{2} \sin \frac{\alpha - \beta}{2}$	<b>סכום והפרש פונקציות עבור קוסינוס</b>

### שאלות:

כתוב את הפתרון הכללי של המשוואות הבאות:

$$\sin x + \sin 3x = \sin 2x \quad (1)$$

$$\cos 2x - \cos 6x = \sin 2x \quad (2)$$

$$\sin x + \sin 3x = 4 \sin^3 x \quad (3)$$

$$\sin 6x - \sin 4x = 1 - \cos 2x \quad (4)$$

$$(\sin 5x + \sin 7x)^2 = (\cos 5x + \cos 7x)^2 \quad (5)$$

$$2 \cos^2 \frac{x}{2} + \cos 3x + \cos 5x = 1 \quad (6)$$

$$1 + \sin x + \sin 7x = \cos 8x \quad (7)$$

$$2 \sin 3x (\cos 2x + \cos x) = \sin x + \sin 2x \quad (8)$$

$$\sin(x + 60^\circ) - \sin x = \sin(2x + 60^\circ) - \sin 2x \quad (9)$$

$$\cdot \cos^2 3x - \cos^2 x = \sin x \cos x \quad (10)$$

$$\cdot \sin 8x \sin 2x + \cos 10x = 0 \quad (11)$$

$$\cdot \cos x + 3 \sin x = 1 + 2 \cos \frac{3x}{2} \cos \frac{x}{2} \quad (12)$$

$$\cdot 4 \sin 2x \sin 5x \sin 7x - \sin 4x = 0 \quad (13)$$

$$\cdot 4 \cos x \cos 2x \cos 3x = 1 \quad (14)$$

### תשובות סופיות:

$$\cdot x_{1,2} = \pm 60^\circ + 360^\circ k, x_3 = 90^\circ k \quad (1)$$

$$\cdot x_1 = 45^\circ + 90^\circ k, x_2 = 180^\circ k \quad (2)$$

$$\cdot x_1 = 37.5^\circ + 90^\circ k, x_2 = 7.5^\circ + 90^\circ k, x_3 = 90^\circ k \quad (3)$$

$$\cdot x_1 = 15^\circ + 60^\circ k, x_2 = 180^\circ k, x_3 = -22.5^\circ + 90^\circ k \quad (4)$$

$$\cdot x_1 = 36^\circ k, x_2 = \left(\frac{180}{7}\right)^\circ + \left(\frac{180}{7}\right)^\circ k \quad (5)$$

$$\cdot x_{1,2} = \pm 30^\circ + 90^\circ k, x_3 = 90^\circ + 180^\circ k \quad (6)$$

$$\cdot x_1 = -\left(12\frac{6}{7}\right)^\circ k + \left(51\frac{3}{7}\right)^\circ k, x_2 = 45^\circ k \quad (7)$$

$$\cdot x_1 = 40^\circ k, x_2 = 180^\circ + 360^\circ k \quad (8)$$

$$\cdot x_1 = -20^\circ + 120^\circ k, x_2 = 360^\circ k \quad (9)$$

$$\cdot x_1 = 52.5^\circ + 90^\circ k, x_2 = -7.5^\circ + 90^\circ k, x_3 = 90^\circ k \quad (10)$$

$$\cdot x_1 = 45^\circ + 90^\circ k, x_2 = 11.25^\circ + 22.5^\circ k \quad (11)$$

$$\cdot x_1 = 30^\circ + 360^\circ k, x_2 = 150^\circ + 360^\circ k \quad (12)$$

$$\cdot x_1 = 7.5^\circ + 15^\circ k, x_2 = 90^\circ k \quad (13)$$

$$\cdot x_1 = 60^\circ + 180^\circ k, x_2 = 22.5^\circ + 45^\circ k \quad (14)$$

## משוואות עם תחום נתון:

### סיכום כללי:

כדי למצוא את הפתרונות של משוואה טריגונומטרית בתחום נתון, נמצא תחילה את הפתרון הכללי שלה ולאחר מכן נציב ערכים ב- $k$  ונבחר את הערכים שנמצאים בתחום הנתון.

### שאלות:

מצא את כל הפתרונות של המשוואות הבאות בתחום הנתון לידן:

$$[0^\circ:180^\circ], 8 \sin x - 4 = 0 \quad (1)$$

$$[-90^\circ:90^\circ], \sin 2x = \sin(x + 60^\circ) \quad (2)$$

$$[-90^\circ:90^\circ], 3 \cos(2x + 30^\circ) + 1 = 0 \quad (3)$$

$$[0^\circ:360^\circ], \cos(50^\circ - x) = -\cos x \quad (4)$$

$$[-30^\circ:30^\circ], 2 \sin 3x - 5 \cos 3x = 0 \quad (5)$$

$$[0^\circ:180^\circ], 2 \cos^2 3x = \sin 6x + 1 \quad (6)$$

$$[-180^\circ:180^\circ], \cos 4x + 1 = 3 \sin 2x \quad (7)$$

$$[-180^\circ:180^\circ], \cos 2x + \cos^2 x + \sin x = 0 \quad (8)$$

### תשובות סופיות:

$$x = 30^\circ, 150^\circ \quad (1)$$

$$x = -80^\circ, 40^\circ, 60^\circ \quad (2)$$

$$x = 39.736^\circ, -69.736^\circ \quad (3)$$

$$x = 115^\circ, 295^\circ \quad (4)$$

$$x = 22.733^\circ \quad (5)$$

$$x = 7.5^\circ, 37.5^\circ, 67.5^\circ, 97.5^\circ, 127.5^\circ, 157.5^\circ \quad (6)$$

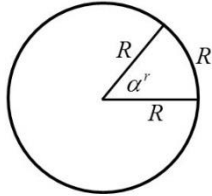
$$x = -165^\circ, -105^\circ, 15^\circ, 75^\circ \quad (7)$$

$$x = -138.19^\circ, -41.81^\circ, 90^\circ \quad (8)$$

## משוואות עם זוויות ברדיאנים:

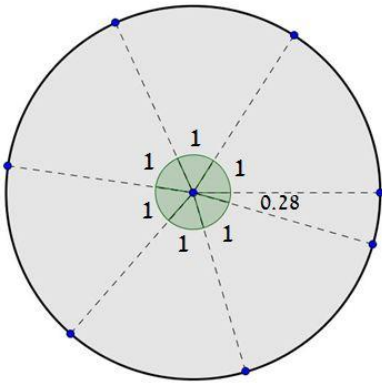
**סיכום כללי:**

**הגדרת הרדיאן:**



זווית של רדיאן אחד מוגדרת להיות הזווית המרכזית המתאימה לקשת שאורכה שווה לרדיוס המעגל.

עבור מעגל שרדיוסו  $R$ , תימצאנה  $2\pi$  רדיאנים על היקפו, שכן היקף מעגל הוא  $P = 2\pi \cdot R$ .



באיור שלפניך ניתן לראות חלוקה של מעגל ל- $2\pi = 6.28$  קשתות אשר שוות לרדיוס המעגל. הזווית של כל קשת כזאת שווה לרדיאן אחד, כאשר הזווית האחרונה שווה ל- $0.28$  מרדיאן. מקבלים  $2\pi$  רדיאנים.

**קשר בין רדיאנים למעלות:**

- נוסחת מעבר מזווית  $\alpha^\circ$  (במעלות) לזווית  $\alpha^r$  (ברדיאנים):  $\alpha^r = \frac{\pi}{180} \alpha^\circ$
- נוסחת מעבר מזווית  $\alpha^r$  (ברדיאנים) לזווית  $\alpha^\circ$  (במעלות):  $\alpha^\circ = \frac{180}{\pi} \alpha^r$

**פתרונות משוואות טריגונומטריות ברדיאנים:**

להלן נוסחאות הפתרון של המשוואות הטריונומטריות היסודיות כאשר  $x$  הוא משתנה ו- $\alpha$  היא זווית ידועה הנתונה ברדיאנים:

המשוואה	הפתרון
$\sin x = \sin \alpha$	$x_1 = \alpha + 2\pi k$ , $x_2 = \pi - \alpha + 2\pi k$
$\cos x = \cos \alpha$	$x_{1,2} = \pm \alpha + 2\pi k$
$\tan x = \tan \alpha$	$x = \alpha + \pi k$
$\cot x = \cot \alpha$	$x = \alpha + \pi k$

כאשר  $k$  מספר שלם.

**שאלות:**

**(1)** המר את הזוויות הבאות ממעלות לרדיאנים:

- |                |                |                 |                  |
|----------------|----------------|-----------------|------------------|
| א. $30^\circ$  | ב. $90^\circ$  | ג. $75^\circ$   | ד. $120^\circ$   |
| ה. $210^\circ$ | ו. $315^\circ$ | ז. $18^\circ$   | ח. $285^\circ$   |
| ט. $-15^\circ$ | י. $-80^\circ$ | יא. $510^\circ$ | יב. $-390^\circ$ |

**(2)** המר את הזוויות הבאות מרדיאנים למעלות:

- |                       |                       |                       |                       |
|-----------------------|-----------------------|-----------------------|-----------------------|
| א. $\pi$              | ב. $2\pi$             | ג. $4\pi$             | ד. $1.5\pi$           |
| ה. $\frac{1}{2}\pi$   | ו. $\frac{\pi}{4}$    | ז. $\frac{\pi}{6}$    | ח. $\frac{1}{18}\pi$  |
| ט. $\frac{13}{18}\pi$ | י. $\frac{19}{12}\pi$ | יא. $1\frac{1}{6}\pi$ | יב. $2\frac{1}{4}\pi$ |

**(3)** פתור את המשוואות הבאות בתחום שלידן (משוואות יסודיות שונות):

- |   |   |
|---|---|
| א. $\left[0:\frac{1}{3}\pi\right], 2\sin 3x=1$                            | ב. $[0:\pi], \sqrt{3}+2\cos x=0$  |
| ג. $[0:2\pi], 3-3\tan\frac{x}{2}=0$                                       | ד. $[0:\pi], \sin\left(2x-\frac{\pi}{4}\right)=\frac{\sqrt{2}}{2}$                            |
| ה. $\left[0:\frac{1}{2}\pi\right], 4\cos\left(x+\frac{\pi}{3}\right)-2=0$ | ו. $\left[-\frac{5\pi}{18}:\frac{5\pi}{18}\right], \sin x=\sin\left(\frac{2}{3}\pi-2x\right)$ |
| ז. $\left[0:\frac{\pi}{3}\right], 5-5\tan(4x-0.1\pi)=0$                   | ח. $\left[-\frac{\pi}{4}:\frac{\pi}{4}\right], \sin\left(2x-\frac{\pi}{5}\right)=0.7$         |

**(4)** פתור את המשוואות הבאות בתחום שלידן (טכניקה אלגברית):

- |  |   |
|--|---|
| א. $\left[0:\frac{\pi}{2}\right], \sin^2 x=\frac{3}{4}$                  | ב. $\left[-\frac{\pi}{8}:\frac{\pi}{8}\right], 16\cos^2 2x-1=0$         |
| ג. $[0:\pi], 2\tan^2 x-18=0$   | ד. $\left[-\frac{\pi}{3}:\frac{\pi}{3}\right], 3\sin x\cos x+3\cos x=0$ |
| ה. $\left[-\frac{\pi}{2}:\frac{\pi}{2}\right], \sin^2 x-5\sin x\cos x=0$ | ו. $[-\pi:\pi], 2\sin^2 x-5\sin x+2=0$                                  |
| ז. $[-\pi:0], 4\cos^2 x-\sqrt{2}\cos x-1=0$                              | ח. $[0:2\pi], \tan^2 x-7\tan x+10=0$                                    |

5) פתור את המשוואות הבאות בתחום שלידן (שימוש בזהויות יסוד):

א.  $0 \leq x \leq \pi$ ,  $\sin x = \cos\left(x + \frac{\pi}{4}\right)$

ב.  $0 \leq x \leq \pi$ ,  $\tan x = 4 \sin x$

ג.  $0 \leq x \leq 2\pi$ ,  $2 \sin^2 x = 3 \cos x$

6) פתור את המשוואות הבאות בתחום שלידן (שימוש בזהויות ממעגל היחידה):

א.  $[-\pi : \pi]$ ,  $\sin\left(x - \frac{\pi}{6}\right) = -\sin x$

ב.  $[0 : \pi]$ ,  $\sin\left(2x + \frac{2}{9}\pi\right) = -\cos 2x$

ג.  $[0 : \pi]$ ,  $\sin 4x = -\cos(\pi - x)$

ד.  $\left[-\frac{\pi}{2} : \frac{\pi}{2}\right]$ ,  $\tan x = -\tan 2x$

7) פתור את המשוואות הבאות בתחום שלידן (זהויות של זווית כפולה):

א.  $-\pi \leq x \leq \pi$ ,  $\sin 2x + \cos^2 x = 0$

ב.  $[-\pi : \pi]$ ,  $\cos 4x + 1 = 3 \sin 2x$

ג.  $-\frac{\pi}{2} \leq x \leq \frac{\pi}{2}$ ,  $2 \sin^2 x = \cos 2x + 2$

ד.  $0 \leq x \leq \pi$ ,  $\cos 4x + \sin^2 x = 1$

## תשובות סופיות:

- (1) א.  $\frac{\pi}{6}$     ב.  $\frac{\pi}{2}$     ג.  $\frac{5\pi}{12}$     ד.  $\frac{2\pi}{3}$     ה.  $\frac{7\pi}{6}$   
 ו.  $\frac{7\pi}{4}$     ז.  $\frac{\pi}{10}$     ח.  $\frac{19\pi}{12}$     ט.  $-\frac{\pi}{12}$     י.  $-\frac{4\pi}{9}$   
 יא.  $\frac{17\pi}{6}$     יב.  $-\frac{13\pi}{6}$
- (2) א.  $180^\circ$     ב.  $360^\circ$     ג.  $720^\circ$     ד.  $270^\circ$     ה.  $90^\circ$   
 ו.  $45^\circ$     ז.  $30^\circ$     ח.  $10^\circ$     ט.  $130^\circ$     י.  $285^\circ$   
 יא.  $210^\circ$     יב.  $405^\circ$
- (3) א.  $\frac{\pi}{18}, \frac{5\pi}{18}$     ב.  $x = \frac{5\pi}{6}$     ג.  $x = \frac{\pi}{2}$     ד.  $x = \frac{\pi}{4}, \frac{\pi}{2}$   
 ה.  $x = 0$     ו.  $x = \frac{2\pi}{9}$     ז.  $x = 0.0875\pi$     ח.  $x = 0.224\pi$
- (4) א.  $x = \frac{\pi}{3}$     ב.  $\phi$     ג.  $x = 0.398\pi, 0.602\pi$     ד.  $\phi$   
 ה.  $x = 0, 0.437\pi$     ו.  $x = \frac{\pi}{6}, \frac{5\pi}{6}$
- ז.  $x = -\frac{\pi}{4}, -0.615\pi$     ח.  $x = 0.352\pi, 0.437\pi, 1.352\pi, 1.437\pi$
- (5) א.  $x = \frac{\pi}{8}$     ב.  $x = 0, 0.42\pi, \pi$     ג.  $x = \frac{\pi}{3}, \frac{5\pi}{3}$
- (6) א.  $x = \frac{\pi}{12}, -\frac{11\pi}{12}$     ב.  $x = \frac{23\pi}{72}, \frac{59\pi}{72}$
- ג.  $x = \frac{\pi}{10}, \frac{\pi}{6}, \frac{\pi}{2}, \frac{5\pi}{6}, \frac{9\pi}{10}$     ד.  $x = \pm \frac{\pi}{3}, 0$
- (7) א.  $x = \pm \frac{\pi}{2}, -0.148\pi, 0.852\pi$     ב.  $x = -\frac{7\pi}{12}, \frac{\pi}{12}, \frac{5\pi}{12}, \frac{11\pi}{12}$   
 ג.  $x = \pm \frac{\pi}{3}$     ד.  $x = 0, 0.38\pi, 0.61\pi, \pi$

## אי שוויונים טריגונומטריים:

### סיכום כללי:

- כדי לפתור אי-שוויון טריגונומטרי בתחום מסוים נבצע את השלבים הבאים:
1. נהפוך את סימן אי השוויון לסימן שוויון ונפתור את המשוואה המתקבלת.
  2. נסדר את כל הפתרונות על ציר מספרים ונבחר ערך בכל תחום.
  3. נציב את הערכים באי השוויון המקורי ונאמר כי:
    - אם מתקבל פסוק אמת אז תחום זה מהווה פתרון של אי השוויון.
    - אם מתקבל פסוק שקר אז תחום זה אינו פתרון של אי השוויון.
  4. נרכז את כל התחומים ונכתוב את הפתרון המלא.

### הערה:

במידה והמשוואה אינה מוגדרת עבור ערך מסוים הערך הזה מוכנס גם לציר המספרים.

### שאלות:

פתור את אי השוויונים הבאים בתחום הרשום לידם:

$$[0, 1.5\pi] \quad 2 \cos x - \sqrt{3} \geq 0 \quad \text{(2)} \qquad [0, 180^\circ] \quad \sin x < \frac{1}{2} \quad \text{(1)}$$

$$[0, \pi] \quad \sin x + \sin 2x + \sin 3x < 0 \quad \text{(4)} \qquad (-90^\circ, 90^\circ) \quad 2 \cos^2 x + \sin x \geq 1 \quad \text{(3)}$$

$$(0 < x < \pi) \quad \sin x + \sqrt{3} \cos x \geq 1 \quad \text{(6)} \qquad [0^\circ, 180^\circ] \quad 1 < 2 \sin(x + 10^\circ) < \sqrt{3} \quad \text{(5)}$$

$$(-\pi < x < \pi) \quad |\tan(x)| > \frac{1}{\sqrt{3}} \quad \text{(8)} \qquad [0, 2\pi] \quad \tan x + \cot x > 0 \quad \text{(7)}$$

**תשובות סופיות:**

$$. 0^\circ \leq x < 30^\circ, 150^\circ \leq x \leq 180^\circ \quad (1)$$

$$. 0 \leq x \leq \frac{\pi}{6} \quad (2)$$

$$. -30^\circ \leq x < 90^\circ \quad (3)$$

$$. \frac{\pi}{2} < x < \frac{2\pi}{3} \quad (4)$$

$$. 20^\circ < x < 50^\circ, 110^\circ < x < 140^\circ \quad (5)$$

$$. 0 < x \leq \frac{\pi}{2} \quad (6)$$

$$. 0 < x < \frac{\pi}{2}, \pi < x < \frac{3}{2}\pi \quad (7)$$

$$. -\frac{5\pi}{6} < x < -\frac{\pi}{6}, x \neq -\frac{\pi}{2} : \text{או} \frac{\pi}{6} < x < \frac{5\pi}{6}, x \neq \frac{\pi}{2} \quad (8)$$

# מכינה למבחן פטור (חדוא 0)

פרק 11 - גיאומטריה אנליטית - נקודה וישר

תוכן העניינים

192	1. מושגי יסוד בגיאומטריה אנליטית
196	2. משוואת הישר
201	3. מצבים הדדיים בין ישרים
203	4. מציאת משוואות ישר
204	5. שאלות יסודיות שונות עם משוואת הישר
(ללא ספר)	6. נושאים מתקדמים עם משוואת הישר
210	7. חלוקת קטע ביחס נתון
211	8. מרחק נקודה מישר
213	9. מיקום נקודה ביחס לישר
215	10. מרחק בין ישרים מקבילים

## מושגי יסוד בגיאומטריה אנליטית:

סיכום כללי:

נוסחאות כלליות:

- המרחק בין הנקודות  $A(x_1, y_1)$  ו-  $B(x_2, y_2)$  יחושב לפי:  $d = \sqrt{(x_2 - x_1)^2 + (y_2 - y_1)^2}$ .
- אמצע הקטע  $M$  שקצותיו הם:  $A(x_1, y_1)$  ו-  $B(x_2, y_2)$  הוא:  $x_M = \frac{x_1 + x_2}{2}, y_M = \frac{y_1 + y_2}{2}$ .

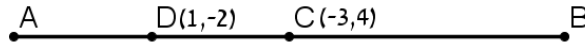
שאלות:

שאלות העוסקות באמצע קטע:

- 1) מצא את אמצעי הקטעים שקדקודיהם נתונים ע"י הנקודות A ו-B:
- א.  $A(1, 4), B(5, -8)$       ב.  $A(-3, 0), B(3, -2)$
- ג.  $A(4, 5), B(-4, -5)$       ד.  $A\left(\frac{1}{2}, \frac{3}{4}\right), B\left(7\frac{1}{2}, -2\right)$
- ה.  $A(6, -1), B(-3, -1)$       ו.  $A(4, 7), B(4, -12)$
- 2) נתון קטע AB שאמצעו בנקודה M.
- מצא את שיעורי נקודת הקצה B אם נתונים שיעורי הנקודות של A ושל M:
- א.  $A(4, -2), M(2, 1)$       ב.  $A(-6, -8), M(0, 0)$
- ג.  $A(13, -11), M(4, -7)$       ד.  $A\left(\frac{1}{3}, -\frac{4}{3}\right), M\left(\frac{2}{3}, -\frac{1}{3}\right)$
- 3) נתון משולש שווה שוקיים ABC שבו A הוא קדקוד הראש.
- ידוע כי שיעורי הקדקודים B ו-C הם  $B(2, -4), C(6, 1)$ .
- מעבירים תיכון AD לבסיס BC. מצא את שיעורי הנקודה D.
- 4) באיור שלפניך C היא נקודת האמצע של AB, ו-D היא נקודת האמצע של AC.
- ידוע כי:  $A(-2, 1), B(6, 5)$ . מצא את שיעורי הנקודה D.



- (5) באיור שלפניך C היא נקודת האמצע של AB, ו-D היא נקודת האמצע של AC. ידוע כי:  $D(1, -2)$ ,  $C(-3, 4)$ . מצא את שיעורי הנקודות A ו-B.



- (6) הנקודות  $A(2, -7)$ ,  $B(-10, 4)$  ו- $C(6, 11)$  הן שלושה קדקודים של מקבילית ABCD. מצא את שיעורי הקדקוד הרביעי, D.

### שאלות העוסקות במרחק בין שתי נקודות:

- (7) מצא את המרחק בין זוגות הנקודות הבאות:
- א.  $A(4, 7)$ ,  $B(-3, 7)$       ב.  $A(6, 2)$ ,  $B(1, 2)$
- ג.  $A(-3, 10)$ ,  $B(0, 6)$       ד.  $A(6, -9)$ ,  $B(1, 3)$
- ה.  $A(4, 7)$ ,  $B(13, -1)$       ו.  $A(6, 6)$ ,  $B(-9, -9)$
- (8) חשב את היקף המשולש ABC שקודקודיו הם:  $A(3, -2)$ ,  $B(4, 9)$ ,  $C(0, 14)$ .

- (9) נתונות נקודות  $A(14, 4)$ ,  $B(6, y)$  שמרחקן הוא 10 יחידות אורך. מצא את  $y$ .

- (10) נתונות נקודות  $A(x, -12)$ ,  $B(15, -2)$  שמרחקן הוא 26 יחידות אורך. מצא את  $x$ .

- (11) נתונה נקודה B ברביע השלישי, ששיעור ה- $y$  שלה גדול פי 3 משיעור ה- $x$  שלה ומרחקה מהנקודה  $A(-4, 1)$  הוא 5. מצא את שיעורי הנקודה B.

- (12) במשולש שווה שוקיים ABC ( $AB = AC$ ) ידוע כי אורכי השוקיים הוא  $\sqrt{45}$  יחידות אורך. שיעורי הקדקוד A הם  $(0, 4)$  ושיעורי ה- $y$  של הקדקודים B ו-C הוא -2. מצא את קדקודי המשולש B ו-C (הנח B ברביע הרביעי).

- (13) אורך האלכסון AC במלבן ABCD הוא  $d_{AC} = \sqrt{50}$  וידוע כי:  $A(-3, -2)$ ,  $B(-4, 1)$ . מצא את היקף המלבן.

**שאלות העוסקות בשיפוע בין שתי נקודות:****14** מצא את השיפוע בין זוגות הנקודות הבאים:

- א.  $A(5,2)$  ,  $B(4,1)$       ב.  $A(3,-2)$  ,  $B(-3,1)$   
ג.  $A(7,8)$  ,  $B(6,15)$       ד.  $A(0,5)$  ,  $B(7,0)$   
ה.  $A(6,9)$  ,  $B(6,-7)$       ו.  $A(4,-1)$  ,  $B(18,-1)$

**15** מצא את שיפועי הישרים שצלעות המשולש שקודקודיוהם:  $A(6,5)$  ,  $B(2,13)$  ,  $C(4,-7)$  מונחים עליהם.

## תשובות סופיות:

- (1) א.  $(3, -2)$     ב.  $(0, -1)$     ג.  $(0, 0)$
- ד.  $\left(4, -\frac{5}{8}\right)$     ה.  $(1.5, -1)$     ו.  $(4, -2.5)$
- (2) א.  $B(0, 4)$     ב.  $B(6, 8)$     ג.  $B(-5, -3)$     ד.  $B\left(1, \frac{2}{3}\right)$
- (3)  $D(4, -1.5)$
- (4)  $D(0, 2)$
- (5)  $A(5, -8)$ ,  $B(-11, 16)$
- (6)  $D(18, 0)$
- (7) א.  $d_{AB} = 7$     ב.  $d_{AB} = 5$     ג.  $d_{AB} = 5$     ד.  $d_{AB} = 13$
- ה.  $d_{AB} = \sqrt{145}$     ו.  $d_{AB} = 15\sqrt{2}$
- (8)  $P_{ABC} \approx 33.862$  יחידות אורך
- (9)  $y = -2$  או  $y = 10$
- (10)  $x = 39$  או  $x = -9$
- (11)  $B(-1, -3)$
- (12)  $B(3, -2)$ ,  $C(-3, -2)$
- (13)  $P_{ABCD} = 6\sqrt{10} \approx 18.97$  יחידות אורך
- (14) א.  $m_{AB} = 1$     ב.  $m_{AB} = -\frac{1}{2}$     ג.  $m_{AB} = -7$     ד.  $m_{AB} = -\frac{5}{7}$
- ה. שיפוע לא מוגדר.    ו.  $m_{AB} = 0$
- (15)  $m_{AB} = -2$ ,  $m_{BC} = -10$ ,  $m_{AC} = 6$

## משוואת הישר:

**סיכום כללי:**

**נוסחאות כלליות:**

- שיפוע ישר בין שתי נקודות  $A(x_1, y_1)$  ו-  $B(x_2, y_2)$  הוא:  $m_{AB} = \frac{y_2 - y_1}{x_2 - x_1} = \frac{y_1 - y_2}{x_1 - x_2}$ .

**שיפועים של ישרים:**

- שיפועי ישרים מאונכים מקיימים:  $m_1 \cdot m_2 = -1$ .
- הקשר בין שיפוע ישר לזווית שהוא יוצר עם הכיוון החיובי של ציר ה- $x$ :  $m = \tan \alpha$ .

**משוואת הישר:**

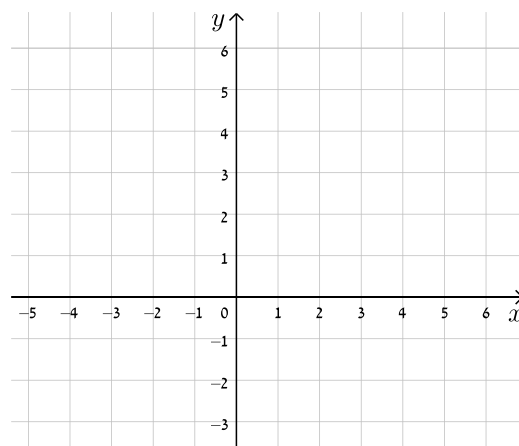
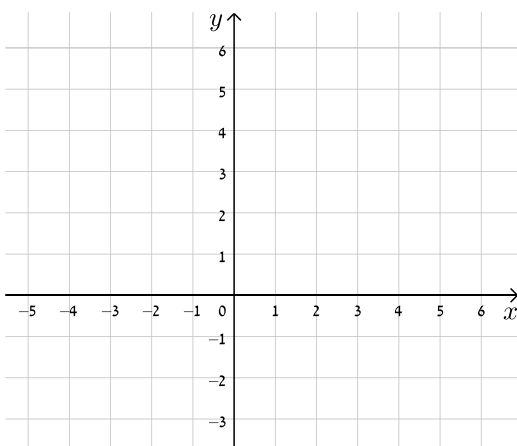
- משוואת ישר מפורשת היא מהצורה:  $y = mx + n$ .
- כאשר:  $m$  הוא שיפוע הישר ו- $n$  הוא ערך ה- $y$  של נקודת החיתוך של הישר עם ציר ה- $y$ .
- נוסחה למציאת משוואת ישר:  $y - y_1 = m(x - x_1)$ .

**שאלות:**

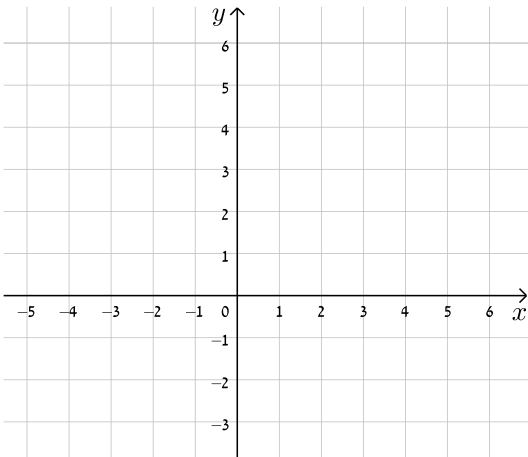
16) עבור כל אחד ממשוואות הישרים הבאות, מצא את נקודות החיתוך עם הצירים וסרטט את הישרים במערכת הצירים שלפניך.

ב.  $y = -x + 5$

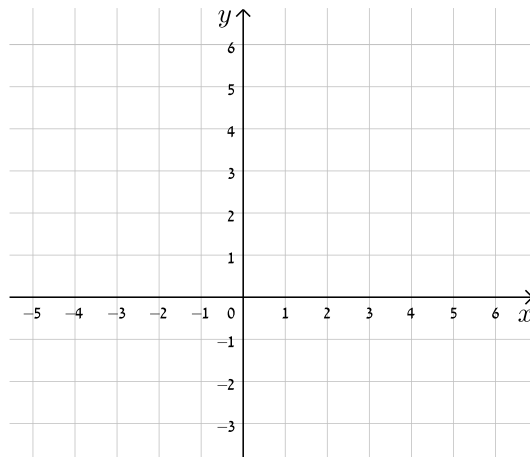
א.  $y = x + 4$



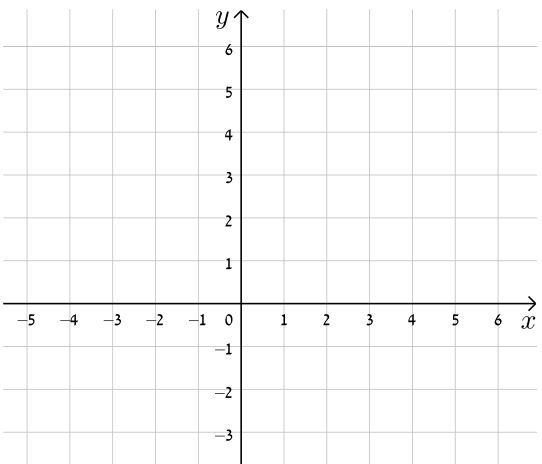
$$y = -3x + 5 \quad \text{ד.}$$



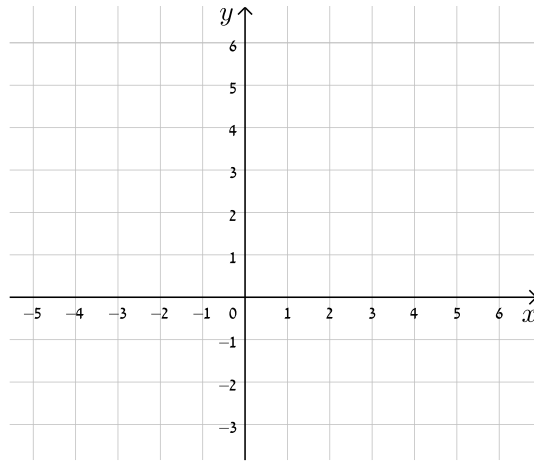
$$y = 2x - 3 \quad \text{ג.}$$



$$y = 8 - 4x \quad \text{ו.}$$

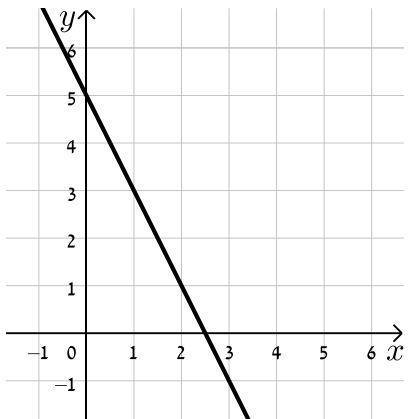


$$y = 3x - 1 \quad \text{ה.}$$

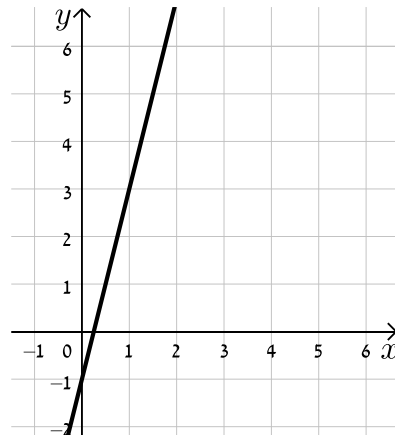


17) כתוב את משוואת הישר המתאימה לכל אחד מהישרים הבאים:

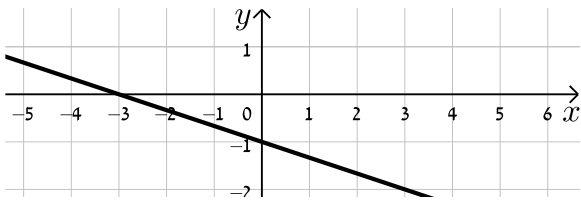
ב.



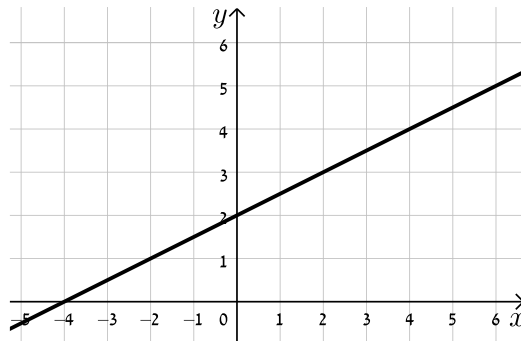
א.



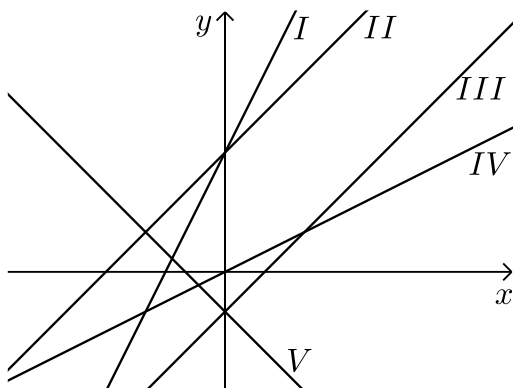
ד.



ג.



18) התאם בין משוואות הישרים הבאים לישרים בשרטוט:



א.  $y = x + 3$

ב.  $y = -x - 1$

ג.  $y = 2x + 3$

ד.  $y = x - 1$

ה.  $y = \frac{1}{2}x$

19) נתונה משוואה הישר הבאה:  $y = 2x + 3$ . קבע אלו מבין הנקודות הבאות נמצאות

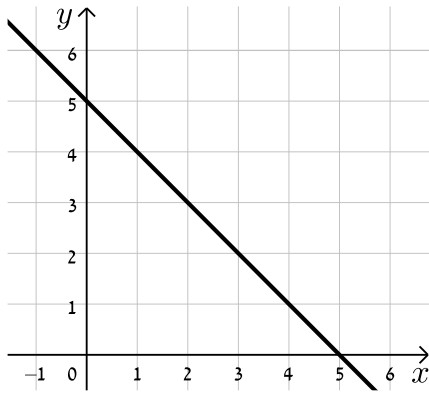
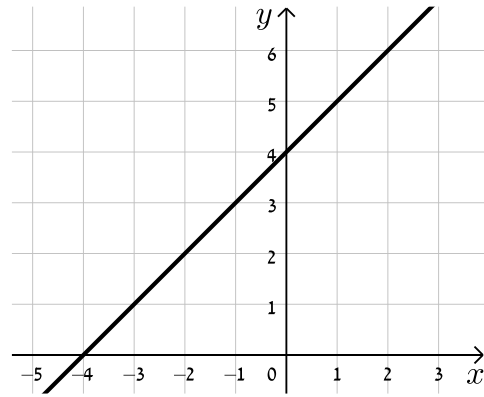
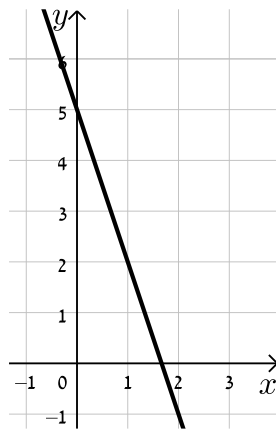
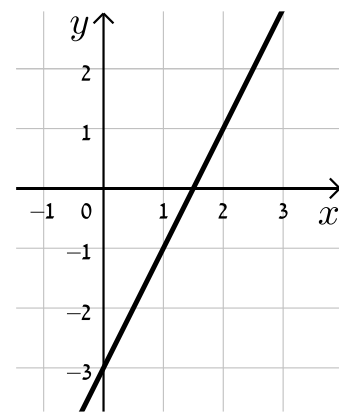
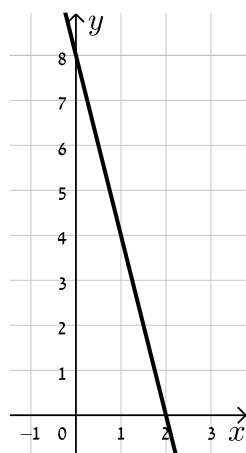
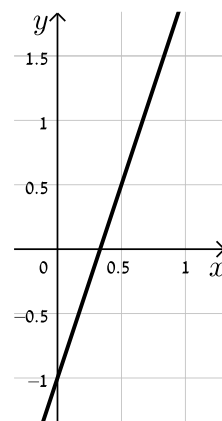
עליו:  $A(-1, 1)$ ,  $B(3, 3)$ ,  $C(0, 4)$ ,  $D(6, 15)$ .

20) נתונה משוואת הישר הבאה:  $y = mx - 2.5$ . ידוע כי הנקודה  $A(4, 2)$  נמצאת על

הישר. מצא את  $m$  וקבע האם גם הנקודה  $B(7, -2)$  נמצאת עליו.

21) הנקודות  $A(5, -3)$ ,  $B(4, 1)$  נמצאות על ישר שמשוואתו היא:  $y = mx + n$ .

מצא את  $m$  ואת  $n$ .

**תשובות סופיות:**
**16) להלן הגרפים של משוואות הישרים:**
**ב.**

**א.**

**ד.**

**ג.**

**ו.**

**ה.**


- (17) א.  $y = 4x - 1$     ב.  $y = -2x + 5$     ג.  $y = \frac{1}{2}x + 2$     ד.  $y = -\frac{1}{3}x - 1$
- (18) א. II.    ב. V.    ג. I.    ד. III.    ה. IV.
- (19) נמצאות: A, D. לא נמצאות: B, C.
- (20)  $m = \frac{9}{8}$ , B לא נמצאת.
- (21)  $m = -4$ ,  $n = 17$ .

## מצבים הדדיים בין ישרים:

### סיכום כללי:

#### מצב הדדי בין שני ישרים:

- ישרים מקבילים מקיימים:  $m_1 = m_2, n_1 \neq n_2$ .
- ישרים חותכים מקיימים:  $m_1 \neq m_2$ .
- ישרים מתלכדים מקיימים:  $m_1 = m_2, n_1 = n_2$ .

### שאלות:

22) מצא את נקודות החיתוך שבין זוגות הישרים הבאים:

$$\begin{cases} y = 2x - 4 \\ y = x + 6 \end{cases} \quad \text{ג.}$$

$$\begin{cases} y = x - 12 \\ y = 4x + 6 \end{cases} \quad \text{ב.}$$

$$\begin{cases} y = 3x + 4 \\ y = -2x - 1 \end{cases} \quad \text{א.}$$

23) קבע את המצב ההדדי בין זוגות הישרים הבאים:

$$\begin{cases} y = x - 7 \\ y = x + 6 \end{cases} \quad \text{ב.}$$

$$\begin{cases} y = 3x + 4 \\ y = 2x + 4 \end{cases} \quad \text{א.}$$

$$\begin{cases} y = x + 8 \\ y = x + 8 \end{cases} \quad \text{ד.}$$

$$\begin{cases} y = 6x - 15 \\ y = 3x + 41 \end{cases} \quad \text{ג.}$$

24) קבע אלו מבין זוגות הישרים הבאים הם מאונכים זה לזה:

$$\begin{cases} y = 2x \\ y = \frac{1}{2}x + 4 \end{cases} \quad \text{ב.}$$

$$\begin{cases} y = 3x + 1 \\ y = 3x - 1 \end{cases} \quad \text{א.}$$

$$\begin{cases} y = x - 6 \\ y = -x + 6 \end{cases} \quad \text{ד.}$$

$$\begin{cases} y = -4x - 5 \\ y = \frac{1}{4}x + 5 \end{cases} \quad \text{ג.}$$

- (25)** משוואת הצלע AB של המלבן ABCD היא  $y = 6x - 2$ .
- א. מה הם שיפועי הצלעות האחרות של המלבן?  
 ב. כיצד תשתנה תשובתך לסעיף הקודם אם משוואת הישר הנ"ל הייתה שייכת לצלע BC במקום AB?
- (26)** במשולש ABC נתונים שיעורי הקודקודים:  $A(5, -1)$ ,  $B(3, 7)$ ,  $C(-5, 5)$ .  
 הוכח שהמשולש ישר זווית ושווה שוקיים.

### תשובות סופיות:

- (22)** א.  $(-1, 1)$       ב.  $(-6, -18)$       ג.  $(10, 16)$
- (23)** א. נחתכים.      ב. מקבילים.      ג. נחתכים.      ד. מתלכדים.
- (24)** מאונכים: ג', ד'.      לא מאונכים: א', ב'.
- (25)** א.  $m_{AB} = m_{CD} = 6$ ,  $m_{BC} = m_{AD} = -\frac{1}{6}$
- ב. הכל הפוך:  $m_{BC} = m_{AD} = 6$ ,  $m_{AB} = m_{CD} = -\frac{1}{6}$
- (26)** שאלת הוכחה.

## מציאת משוואות ישר:

### שאלות:

27 מצא את משוואות הישרים הבאים:

- א. ישר העובר דרך הנקודה  $A(1,3)$  ושיפועו  $m=2$ .
- ב. ישר העובר דרך הנקודה  $A(0,-4)$  ושיפועו  $m=\frac{1}{3}$ .
- ג. ישר העובר דרך הנקודה  $A(5,9)$  ושיפועו  $m=0$ .
- ד. ישר העובר דרך הנקודות  $A(5,-12)$  ו- $B(6,-6)$ .
- ה. ישר העובר דרך הנקודה  $A(-6,4)$  ומקביל לישר:  $y=2x-3$ .
- ו. ישר העובר דרך הנקודה  $A(3,-5)$  ומקביל לציר ה- $y$ .
- ז. ישר העובר דרך הנקודה  $A(-7,-3)$  ומאונך לישר:  $y=x+3$ .
- ח. ישר העובר דרך נקודת החיתוך של הישרים:  $y=11x-4$  ו- $y=3x-12$  ומקביל לישר:  $y=7x+5$ .

### תשובות סופיות:

- 27 א.  $y=2x+1$       ב.  $y=\frac{1}{3}x-4$       ג.  $y=9$       ד.  $y=6x-42$
- ה.  $y=2x+16$       ו.  $x=3$       ז.  $y=-x-10$       ח.  $y=7x-8$

## שאלות יסודיות שונות עם משוואת הישר:

### שאלות:

**(28)** במשולש ABC מעבירים את התיכון AD לצלע BC.

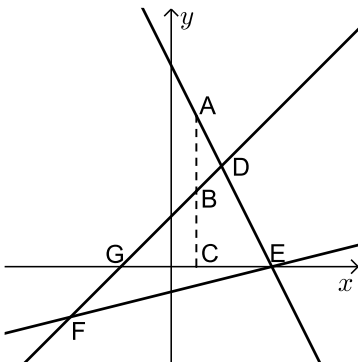
ידוע כי:  $A(3, -2)$ ,  $B(2, 4)$ ,  $D(-2, 2)$ .

- כתוב את משוואת הישר של התיכון AD.
- מצא את שיעורי הקדקוד C.
- כתוב את משוואת הישר של הצלע AC.

**(29)** נתון מעוין ABCD שבו נתונים הקודקודים A(-9,1) ו-B(5,-7).

משוואת הישר עליו מונח האלכסון AC היא  $x + 3y + 6 = 0$ .

- מצא את משוואת הישר עליו מונח האלכסון BD.
- מצא את משוואת הישר עליו מונחת הצלע BC.



**(30)** שלוש המשוואות הבאות מייצגות את הישרים המופיעים

בשרטוט:  $x - y + 2 = 0$ ,  $x - 4y - 4 = 0$ ,  $2x + y - 8 = 0$ .

הקטע AC מקביל לציר ה-y.

- חשב את שטח המשולש DEF.
- נתון:  $d_{BC} = 3$ . חשב את אורך הקטע AB.

**(31)** BD הוא התיכון לצלע AC במשולש ABC שבו נתון הקודקוד A(-6,1).

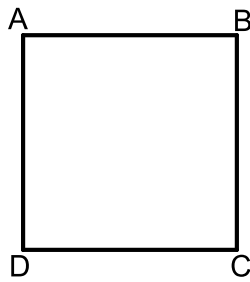
משוואת התיכון BD היא  $x - y = 1$  ומשוואת הצלע BC היא  $3x + 5y = 67$ .

מצא את שיעורי הקדקוד C.

**(32)** נתון טרפז ABCD ( $AB \parallel CD$ ) ובו משוואת השוק BC היא:  $x = 2$ .

משוואת הבסיס CD היא  $2x + 3y = 7$  וידוע כי  $A(-4, 1)$ .

- מצא את משוואת הבסיס AB.
- מצא את שיעורי הקדקודים B ו-C.
- מעבירים את האלכסון AC. הראה כי המשולש ABC הוא ישר זווית ומצא את שטחו.



**33** במרובע ABCD ידוע כי שיפוע הצלע BC הוא 3

ושיעורי הנקודה A הם: (1,4).

א. איזה מרובע הוא המרובע ABCD?  
הראה חישוב מתאים.

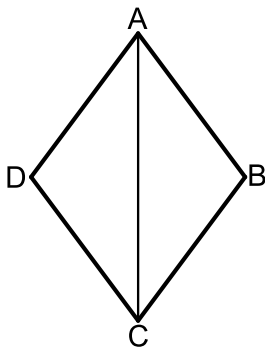
ב. נתון גם:  $D(4,13)$ ,  $m_{CD} = -\frac{1}{3}$  ו- $\sqrt{90}$  ס"מ  $BC =$ .

איזה מרובע הוא המרובע ABCD כעת?  
הראה חישוב מתאים.

ג. נתון גם:  $B(-8,7)$ .

איזה מרובע הוא המרובע ABCD כעת?  
הראה חישוב מתאים.

ד. חשב את שטח המרובע ABCD.



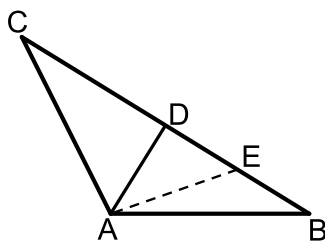
**34** המרובע ABCD הוא מעוין.

ידוע כי שיעורי אחת הנקודות במעוין הם: (0,6).

כמו כן, ידוע גם כי משוואת האלכסון AC היא:  $y = -1.5x + 6$  ואחת ממשוואות הצלעות היא:  $5y + x = 4$ .

א. מצא את משוואת האלכסון השני.

ב. מצא את שאר קדקודי המעוין.



**35** המשולש ABC הוא משולש שווה שוקיים ( $AB = AC$ ).

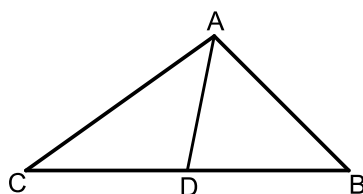
ב- $\triangle ABC$  מעבירים את הגובה AD לבסיס BC

ומסמנים נקודה E כך שמתקיים:  $DE = BE$ .  
קדקוד הראש A נמצא בראשית הצירים ונתון

כי:  $D(5,7)$ ,  $E(8.5,2.5)$ .

א. מצא את שיעורי שאר קדקודי המשולש.

ב. כתוב את משוואת השוק AC.



**36** נתון משולש ABC. הנקודה D נמצאת על הצלע BC

של המשולש ABC כך שהקטע AD מחלק אותו

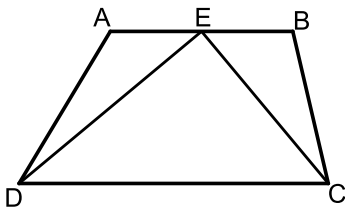
לשני משולשים שווי שטח ABD ו-ACD.

הצלע BC מונחת על הישר:  $y = 4$  וידוע כי

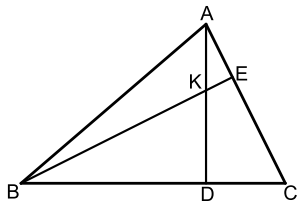
שיעור ה-x של הנקודה C הוא:  $x_C = -1$ .

כמו כן נתון:  $A(7,8)$ ,  $m_{AB} = -2$ .

- א. מצא את משוואת הצלע AB.  
 ב. ענה על הסעיפים הבאים:  
 i. איזה קטע הוא AD בתוך המשולש ABC?  
 ii. מצא את שיעורי הנקודות B ו-D.  
 ג. ענה על הסעיפים הבאים:  
 i. חשב את אורך הצלע BC ואת אורך הקטע AD.  
 ii. איזה משולש הוא המשולש ABC?

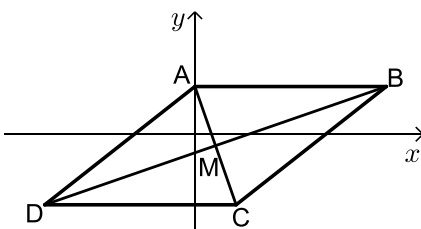


- (37)** המרובע ABCD הוא טרפז. הנקודה E היא אמצע הבסיס AB וידוע כי היא נמצאת על ציר ה-x.  
 שיעורי הנקודה B הם (3, 2) והצלע AD מונחת על הישר:  $x = -5$ . אורך הקטע DE הוא  $\sqrt{80}$ .  
 כך ש- $\angle DEC = 90^\circ$  ברביע השלישי וכן:  
 א. מצא את שיעורי הנקודות A, D ו-E.  
 ב. מצא את משוואת הקטע CE ואת משוואת הבסיס CD.  
 ג. מצא את שיעורי הנקודה C.  
 ד. חשב את שטח המשולש DEC.



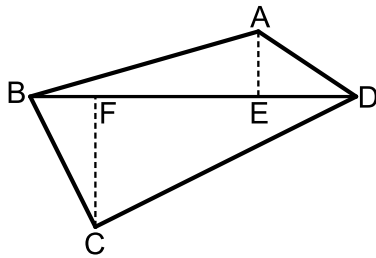
- (38)** AD ו-BE הם בהתאמה גבהים לצלעות BC ו-AC במשולש ABC.  
 ידוע כי שיעורי נקודת פגישת הגבהים K הם: (1, 3).  
 שיעורי הנקודות D ו-E הם:  $D(-2, 4)$ ,  $E(3, 5)$ .  
 א. מצא את משוואת הגובה AD ואת משוואת הצלע AC.  
 ב. מצא את שיעורי הקדקוד A.  
 ג. מצא את משוואת הגובה BE ואת משוואת הצלע BC.  
 ד. מצא את שיעורי הקדקוד B.

- (39)** נתון מעוין ABCD. ידוע כי הצלע CD מונחת על  $y = -7$ .  
 אלכסוני המעוין AC ו-BD נפגשים בנקודה:  $M(-0.5, -3)$ . שיפוע האלכסון AC הוא -4.



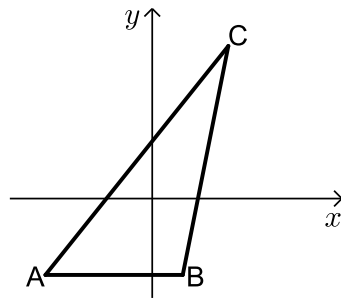
- א. מצא את משוואת האלכסון AC.  
 ב. מצא את שיעורי הנקודה C.  
 ג. חשב את שטח המשולש BMC.

**40** נתון מרובע ABCD שקודקודיו הם:  $A(3,13)$ ,  $B(-2,4)$ ,  $C(9,3)$ ,  $D(8,14)$ .



מורידים גבהים AE ו-CF לאלכסון BD.

- מצא את משוואת האלכסון BD ואת אורכו.
- מצא את שיעורי הנקודות E ו-F.
- מצא את אורכי הגבהים AE ו-CF.
- חשב את שטח המרובע ABCD.



**41** על הישר  $y = -5$  מסמנים את

הנקודות:  $A(-7, -5)$ ,  $B(2, -5)$ .

הנקודה C נמצאת על הישר:  $y = x - 5$ .

נסמן את שיעור ה-x של הנקודה C ב-t.

א. הבע באמצעות t את שיעור ה-y של הנקודה C.

ב. ידוע כי אורך הצלע AC הוא 17 ס"מ.

הבע באמצעות t את המרחקים של C מ-A ומ-B.

ג. מצא את t ואת אורך הצלע BC.

ד. מסמנים נקודה D על המשך הצלע AB.

ידוע כי D נמצאת ברביע השלישי.

מצא את שיעורי הנקודה D המקיימת ששטח

המשולש DAC יהיה גדול ב-16 יחידות משטח המשולש ABC.

**42** המשולש ABC הוא שווה שוקיים ( $AB = BC$ )

ובו נתון:  $A(-4, 12)$ ,  $B(x, 6)$  ו-  $C(4, 8)$ .

א. מצא את x.

ב. הוכח כי המשולש הוא ישר זווית.

ג. ענה על הסעיפים הבאים:

i. מצא את משוואת הצלע AC.

ii. מסמנים את נקודת החיתוך של הצלע AC עם ציר ה-y ב-D.

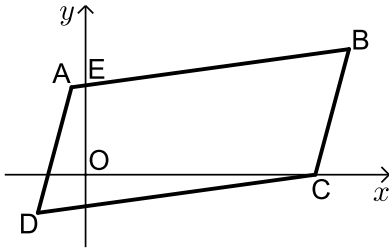
מצא את שיעורי הנקודה D.

ד. ענה על הסעיפים הבאים:

i. מצא נקודה E ברביע הראשון ( $x_E < 5$ ) כך שהמשולש DCE יהיה גם

שווה שוקיים וישר זווית ( $\sphericalangle C = 90^\circ$ ).

ii. חשב את יחס השטחים בין המשולשים:  $\frac{S_{DCE}}{S_{ABC}}$ .



43 באיור שלפניך נתונה מקבילית ABCD.

ידועים קודקודי המקבילית הבאים:  $A(-1, y)$

ו-  $B(x, 4)$ .  $x$  ו-  $y$  נעלמים).

שיפוע הצלע CD הוא 0.2 ואורכה הוא:  $d_{CD} = \sqrt{104}$ .

א. מצא את  $x$  ו-  $y$  אם ידוע כי B ברביע הראשון.

ב. נתון גם כי הקדקוד C נמצא על ציר ה- $x$  בחלקו החיובי

וכי:  $d_{BC} = \sqrt{17}$ . מצא את שיעורי הקדקוד C (מצא שתי אפשרויות).

ג. סמן את נקודת החיתוך של הצלע AB עם ציר ה- $y$  ב-E.

שטח המרובע EOCB הוא 25.9 יח"ש. מצא את האפשרות הנכונה עבור

הנקודה C מבין אלו שמצאת בסעיף הקודם.

## תשובות סופיות:

$$(28) \quad \text{א. } y = -\frac{4}{5}x + \frac{2}{5} \quad \text{ב. } C(-6, 0) \quad \text{ג. } y = -\frac{2}{9}x - \frac{4}{3}$$

$$(29) \quad \text{א. } l_{BD}: y = 3x - 22 \quad \text{ב. } l_{BC}: y = -\frac{1}{8}x - 6\frac{3}{8}$$

$$(30) \quad \text{א. } 18 \text{ יח"ש} = S_{EDF} \quad \text{ב. } 3 \text{ יחידות אורך} = AB$$

$$(31) \quad C(14, 5)$$

$$(32) \quad \text{א. } y = -\frac{2}{3}x - \frac{5}{3} \quad \text{ב. } B(2, -3), C(2, 1) \quad \text{ג. } 12 \text{ יחידות שטח} = S_{ABC}$$

(33) א. מרובע כללי כלשהו. לא ניתן להצביע על אף תכונה.

ב. מלבן. ניתן להראות כי יש למרובע שני זוגות צלעות נגדיות מקבילות ושוות וזווית ישרה.

ג. ריבוע. ניתן להראות כי קיימות זוג צלעות סמוכות שוות. ד.  $90$  יח"ש =  $S$ .

$$(34) \quad \text{א. } y = \frac{2}{3}x + 1\frac{2}{3} \quad \text{ב. } (-1, 1), (4, 0), (5, 5)$$

$$(35) \quad \text{א. } B(12, -2), C(-2, 16) \quad \text{ב. } y = -8x$$

$$(36) \quad \text{א. } y = -2x + 22 \quad \text{ב. i. תיכון - קטע במשולש שחוצה אותו לשני משולשים שווי}$$

$$\text{שטח הוא תיכון. ב. ii. } B(9, 4), D(4, 4)$$

ג. ii.  $AD = 5, BC = 10$ . ג. ii. משולש ישר זווית - אם במשולש יש תיכון לצלע ששווה

למחציתה אז המשולש הוא ישר זווית.

$$(37) \quad \text{א. } D(-5, -8), A(-5, -2), E(-1, 0) \quad \text{ב. } CE: y = -\frac{1}{2}x - \frac{1}{2}, CD: y = \frac{1}{2}x - 5\frac{1}{2}$$

$$\text{ג. } C(5, -3) \quad \text{ד. } 30 \text{ יח"ש} = S_{DEC}$$

$$(38) \quad \text{א. } AD: y = -\frac{1}{3}x + 3\frac{1}{3}, AC: y = -x + 8 \quad \text{ב. } A(7, 1)$$

$$\text{ג. } BE: y = x + 2, BC: y = 3x + 10 \quad \text{ד. } B(-4, -2)$$

$$(39) \quad \text{א. } y = -4x - 5 \quad \text{ב. } C(0.5, -7) \quad \text{ג. } 34 \text{ סמ"ר} = S_{BMC} = S_{DMC}$$

$$(40) \quad \text{א. } d_{BD} = \sqrt{200}, y = x + 6 \quad \text{ב. } E(5, 11), F(3, 9)$$

$$\text{ג. } d_{CF} = \sqrt{72}, d_{AE} = \sqrt{8} \quad \text{ד. } S_{ABCD} = 80$$

$$(41) \quad \text{א. } C(t, t-5) \quad \text{ב. i. } AC = \sqrt{2t^2 + 14t + 49}, BC = \sqrt{2t^2 - 4t + 4}$$

$$\text{ii. } 10 \text{ ס"מ} = BC, t = 8 \quad \text{ג. } D(-20, -5)$$

$$(42) \quad \text{א. } x = -2 \quad \text{ג. i. } y = -0.5x + 10 \quad \text{ii. } D(0, 10) \quad \text{ד. i. } E(2, 4)$$

$$\text{ii. } \frac{S_{DCE}}{S_{ABC}} = \frac{1}{2}$$

$$(43) \quad \text{א. } x = 9, y = 2 \quad \text{ב. } C(8, 0), C(10, 0) \quad \text{ג. } C(8, 0)$$

## חלוקת קטע ביחס נתון:

### סיכום כללי:

- שיעורי נקודה P המחלקת קטע שקצותיו  $A(x_1, y_1)$  ו-  $B(x_2, y_2)$  ביחס של  $k:l$  הם:  $x_p = \frac{k \cdot x_1 + l \cdot x_2}{k+l}, y_p = \frac{k \cdot y_1 + l \cdot y_2}{k+l}$  (בהצלבה).

### שאלות:

- (1) הנקודה P נמצאת על הקטע AB. נתון:  $A(2, -5), B(-12, 16)$ .

$$\frac{AP}{PB} = \frac{2}{5} \text{ . מצא את ערכי הנקודה P, אם נתון כי}$$

- (2) קודקודי משולש ABC הם:  $A(-1, 3), B(6, 0), C(4, -12)$ .

מצא את שיעורי מרכז הכובד של המשולש.  
(מרכז כובד של משולש הוא מפגש תיכוני המשולש).

- (3) מצא את שיעורי מרכז הכובד של משולש ABC

$$\text{שקודקודיו הם: } A(x_1, y_1), B(x_2, y_2), C(x_3, y_3)$$

- (4) קודקודי המשולש ABC הם:  $A(5, 1), B(7, -3), C(-1, 4)$ .

מצא את אורכו של חוצה הזווית היוצא מקודקוד A.

### תשובות סופיות:

$$M(3, -3) \quad (2) \qquad P(-2, 1) \quad (1)$$

$$1.697 \text{ יחידות אורך.} \quad (4) \qquad \left( \frac{x_1 + x_2 + x_3}{3}, \frac{y_1 + y_2 + y_3}{3} \right) \quad (3)$$

## מרחק נקודה מישר:

### סיכום כללי:

#### הצגה כללית של ישר ומרחקים:

- הצגה כללית של ישר (צורה סתומה):  $Ax + By + C = 0$ .
- מרחק הנקודה  $A(x_1, y_1)$  מהישר  $Ax + By + C = 0$  הוא:  $d = \left| \frac{Ax_1 + By_1 + C}{\sqrt{A^2 + B^2}} \right|$ .

כאשר  $B > 0$ :

- אם הנקודה מעל הישר מורידים את הערך המוחלט.
- אם הנקודה מתחת לישר מורידים את הערך המוחלט ומוסיפים מינוס לאחד האגפים.

### שאלות:

(5) ענה על הסעיפים הבאים:

- מצא את מרחק הנקודה  $(-2, 4)$  מהישר  $4x + 3y + 11 = 0$ .
- מצא את מרחק הנקודה  $(4, 3)$  מהישר  $y = 3x - 1$ .
- מצא את מרחק הנקודה  $(3, -11)$  מהישר  $x - 5 = 0$ .

(6) מצא את המרחק בין הנקודה הנתונה לישר הנתון:

- $3x - 4y + 6 = 0$ ,  $A(-5, -1)$     ב.  $12x + 5y - 17 = 0$ ,  $A(-3, 8)$
- $2y + 7 = 0$ ,  $A(11, -2)$     ד.  $3x - 14 = 0$ ,  $A\left(6, -\frac{1}{2}\right)$

(7) מצא את שיעורי הנקודות על הישר  $x + y - 7 = 0$  שמרחקן

מהישר  $2x - y + 5 = 0$  הוא:  $\sqrt{20}$ .

(8) מצא את שטחה של מקבילית ששיעורי קודקודיה

הם:  $A(7, -1)$ ,  $B(-5, 4)$ ,  $C(-1, 7)$ ,  $D(11, 2)$ .

- (9) מצא את שטחו של המשולש  $\triangle ABC$  שבו שיעורי קדקוד  $A$  הם  $A(5, -3)$  ושניים מתיכוני המשולש מונחים על הישרים  $x - 4 = 0$  ו-  $2x - y - 1 = 0$ .
- (10) מצא את שטחו של משולש שקודקודיו הם:  $A(2, 2)$ ,  $B(-1, 1)$ ,  $C(-5, -2)$ .
- (11) מצא את שיעורי הנקודות על הישר  $3x - 2y + 6 = 0$ , שמרחקן מהישר:  $2x - y - 14 = 0$  הוא  $3\sqrt{5}$ .
- (12) מצא את שיעורי הנקודות על הישר  $4x + 3y - 20 = 0$ , שמרחקן מהישר:  $3x + 2y + 13 = 0$  הוא  $2\sqrt{13}$ .

### תשובות סופיות:

- (5) א. 3 ב.  $\frac{8}{\sqrt{10}}$  ג. 2
- (6) א. 1 ב. 1 ג.  $1\frac{1}{2}$  ד.  $1\frac{1}{3}$
- (7)  $(4, 3)$ ,  $\left(-2\frac{2}{3}, 9\frac{2}{3}\right)$
- (8)  $S_{ABCD} = 56$  יח"ש
- (9)  $S_{ABC} = 18$  יח"ש
- (10)  $S_{ABC} = 2.5$  יח"ש
- (11)  $(4, 9)$ ,  $(64, 99)$
- (12)  $(-1, 8)$ ,  $(-157, 216)$

## מיקום נקודה ביחס לישר:

### שאלות:

- 13** מצא את שיעורי הנקודה על הישר  $3x - 2y + 6 = 0$ , שמרחקה מהישר:  $2x - y - 14 = 0$  הוא  $3\sqrt{5}$  והיא נמצאת מתחתיו.
- 14** מצא את שיעורי הנקודה על הישר  $4x + 3y - 20 = 0$ , שמרחקה מהישר:  $3x + 2y + 13 = 0$  הוא  $2\sqrt{13}$  והיא נמצאת מעליו.
- 15** נתון משולש ABC שבו נתונים הקודקודים:  $A(1,1)$ ,  $B(13,6)$ . הקדקוד C נמצא על הישר  $2x - y - 19 = 0$  ונמצא מתחת לצלע AB. מצא את שיעורי הקדקוד C אם ידוע ששטח המשולש הוא 13.
- 16** נתון משולש שצלעותיו מונחות על הישרים:  
 $I: x + 2y + 1 = 0$ ,  $II: x - 2y - 11 = 0$ ,  $III: 2x - y + 6 = 0$   
 מצא שיעורי נקודה הנמצאת בתוך המשולש, שמרחקה מישר I שווה למרחקה מישר III ומרחקה מישר II הוא מחצית מהמרחק משני ישרים אלה.
- 17** מצא את שיעורי מרכז המעגל, החסום במשולש, שצלעותיו מונחות על הישרים:  $I: 4x - 3y + 2 = 0$ ,  $II: 3x - 4y - 51 = 0$ ,  $III: 3x + 4y - 11 = 0$ .
- 18** מצא משוואת ישר ששיפועו 3 אם ידוע שהנקודה  $G(7, -3)$  נמצאת מתחתיו ובמרחק  $2\sqrt{10}$  ממנו.
- 19** מצא משוואת ישר שעובר בנקודה  $A(-2, 6)$  ומרחקו מהנקודה  $B(2, 9)$  הוא  $\sqrt{5}$ .
- 20** מצא משוואת ישר שעובר בנקודה  $A(9, 10)$  ומרחקו מהנקודה  $B(8, -3)$  הוא  $5\sqrt{5}$ .
- 21** מצא משוואת ישר שעובר בנקודה  $A(3, 6)$  ומרחקו מהנקודה  $B(-9, 2)$  הוא 4.

- (22)** מצא משוואת ישר שעובר בנקודה  $A(1,2)$  ומרחקו מהנקודה  $B(-3,10)$  הוא 4.
- (23)** מצא משוואת ישר שעובר בנקודה  $A(10,8)$  ומרחקו מהנקודה  $B(7,-1)$  הוא 3.
- (24)** מצא משוואת ישר שעובר בנקודה  $A(-6,1)$  ומרחקו מהנקודה  $B(2,7)$  הוא 10.

### תשובות סופיות:

- |   |   |
|---|---|
| $(-1,8)$ <b>(14)</b>  | $(64,99)$ <b>(13)</b>   |
| $(-1,-4)$ <b>(16)</b>   | $C(11,3)$ <b>(15)</b>   |
| $y = 3x - 4$ <b>(18)</b>  | $(2,-5)$ <b>(17)</b>  |
| $y = -\frac{22}{31}x + 16\frac{12}{31}$ , $y = \frac{1}{2}x + 5\frac{1}{2}$ <b>(20)</b> | $y = 2x + 10$ , $y = \frac{2}{11}x + 6\frac{4}{11}$ <b>(19)</b> |
| $x = 1$ או $y = -\frac{3}{4}x + 2\frac{3}{4}$ <b>(22)</b>                               | $y = \frac{3}{4}x + 3\frac{3}{4}$ , $y = 6$ <b>(21)</b>         |
| $y = -\frac{4}{3}x - 7$ <b>(24)</b>   | $x = 10$ או $y = 1\frac{1}{3}x - 5\frac{1}{3}$ <b>(23)</b>      |

## מרחק בין ישרים מקבילים:

### סיכום כללי:

- מרחק בין שני ישרים מקבילים:  $Ax + By + C_1 = 0$  ו-  $Ax + By + C_2 = 0$  כאשר:  $B > 0$

$$\text{הוא: } d = \frac{|C_1 - C_2|}{\sqrt{A^2 + B^2}} \text{ ומתקיים בהעדר הערך המוחלט:}$$

- אם:  $C_1 > C_2$ ,  $(d > 0)$  אז הישר  $Ax + By + C_1 = 0$  מתחת ל-  $Ax + By + C_2 = 0$ .
- אם:  $C_1 < C_2$ ,  $(d < 0)$  אז הישר  $Ax + By + C_1 = 0$  מעל ל-  $Ax + By + C_2 = 0$ .

### שאלות:

(25) מצא משוואת ישר, המקביל לישר  $3x - 4y + 8 = 0$  ונמצא במרחק 4 ממנו.

(26) מצא את המרחק בין הישרים המקבילים:  $5x + 12y - 14 = 0$ ,  $5x + 12y + 25 = 0$ .

(27) נתונים הישרים:  $y = 6x + 5$ ,  $12x - 2y - 15 = 0$ .  
הראה שהישרים מקבילים ומצא את המרחק ביניהם.

(28) נתון המלבן ABCD. משוואותיהן של שתיים מצלעות המלבן הן  $AB: 3x + y = 0$  ו-  $CD: 3x + y - 6 = 0$ . הקדקוד B נמצא בראשית הצירים. נתון כי הצלע BC ארוכה פי 4 מהצלע BC. מצא את שטח המלבן ואת מפגש אלכסוני המלבן, אם ידוע שהוא ברביע הרביעי.

(29) צלע של ריבוע מונחת על הישר  $3x - 2y + 5 = 0$ . אלכסוני הריבוע נפגשים בנקודה  $B(1, -1)$ . מצא את משוואות הישרים עליהם מונחות הצלעות האחרות של הריבוע.

(30) נתון ישר שעובר בראשית הצירים ושיפועו חיובי. מצא את משוואת הישר אם נתון שהוא נמצא מעל הנקודות  $P(4, 1)$  ו-  $Q(7, 2)$  וסכום המרחקים ממנו לנקודות אלה הוא  $3\sqrt{10}$ .

**(31)** במשולש BKP נתון כי הצלע BK מונחת על הישר  $x - y + 3 = 0$  והצלע BP מונחת על הישר  $x + 2y + 3 = 0$ . אורך הגובה לצלע BP הוא  $3\sqrt{5}$  ואורך הגובה לצלע KP הוא 5. מצא את שיעורי קדקוד P אם ידוע שראשית הצירים נמצאת בתוך המשולש.

### תשובות סופיות:

$$3 \quad (26) \quad 3x - 4y + 28 = 0, 3x - 4y - 12 = 0 \quad (25)$$

$$(2.1, -3.3), S = \text{יח"ש} \quad 14.4 \quad (28) \quad \frac{25}{\sqrt{148}} \quad (27)$$

$$3x - 2y - 15 = 0, y = -\frac{2}{3}x - 3\frac{2}{3}, y = -\frac{2}{3}x + 3 \quad (29)$$

$$P\left(2, -2\frac{1}{2}\right) \quad (31) \quad y = 3x \quad (30)$$

# מכינה למבחן פטור (חדוא 0)

פרק 12 - מספרים מרוכבים

תוכן העניינים

217	1. הגדרת המספר המרוכב
220	2. המספר הצמוד
223	3. חקירת משוואה ריבועית מרוכבת
224	4. מישור גאוס והצגה קוטבית של מספר מרוכב
228	5. נוסחת דה-מואבר למציאת שורשים של מספר מרוכב
230	6. שאלות בסדרות עם מספרים מרוכבים
231	7. שאלות שונות עם מספרים מרוכבים

## הגדרת המספר המרוכב:

**סיכום כללי:**

**הגדרות כלליות:**

ע"י הסימון:  $i = \sqrt{-1}$  מגדירים את המספר מהצורה:  $z = a + bi$  כמספר מרוכב בעל חלק ממשי  $a$  וחלק מדומה  $b$ . המספרים  $a$  ו- $b$  הם ממשיים.  
 $a$  נקרא הרכיב הממשי של  $z$  ומסומן גם  $\text{Re}(z)$  (מלשון: Real).  
 $b$  נקרא הרכיב המדומה של  $z$  ומסומן גם  $\text{Im}(z)$  (מלשון: Imaginary).

**שאלות:**

(1) רשום עם  $i$ :

א. $\sqrt{-1} =$	ב. $\sqrt{-4} =$	ג. $\sqrt{-25} =$
ד. $\sqrt{-3} =$	ה. $\sqrt{-5} =$	

(2) חשב:

א. $i =$	ב. $i^2 =$	ג. $i^3 =$
ד. $i^4 =$	ה. $i^5 =$	ו. $i^{17} =$

(3) רשום את ערכם של  $a$  ו- $b$  בעבור המספרים המרוכבים הבאים:

א. $2 + 5i$	ב. $3 - i$	ג. $\frac{\sqrt{3}}{2} - \frac{1}{2}i$
ד. $7i$	ה. $-4$	ו. $0$

(4) כתוב מספר מרוכב  $z$  לפי הדרישות הבאות:

א.  $\text{Re}(z) = -3$ ,  $\text{Im}(z) = 2$ .

ב.  $\text{Re}(z) = \text{Im}(z) = \frac{\sqrt{2}}{2}$ .

5 מספר מרוכב מסוים  $z$  מקיים :  $\operatorname{Re}(z) + \operatorname{Im}(z) = 4$  ו-  $\operatorname{Re}(z) - \operatorname{Im}(z) = -1$ . מצא את  $z$ .

6 פתור את המשוואות הבאות :

א.  $x^2 = -1$       ב.  $x^2 + 36 = 0$       ג.  $x^2 - 2x + 5 = 0$

7 פתור את המשוואה הבאה :  $x^2 + x + 1 = 0$ .

8 פתור את המשוואה הבאה :  $z^2 + iz + 6 = 0$ .

9 נתון :  $z_1 = 2 + 3i$ ,  $z_2 = 5 - 2i$ . חשב את ערכי הביטויים המרוכבים הבאים :

א.  $z_1 + z_2 =$       ב.  $z_1 - z_2 =$       ג.  $z_1 \cdot z_2 =$

10 חשב את ערכי הביטויים הבאים :

א.  $(-2 + 6i) + (1 - i)$       ב.  $(4 + 4i) - \left(3 + \frac{1}{2}i\right)$   
 ג.  $\left(\frac{1}{2} - \frac{\sqrt{3}}{2}i\right) - \left(\frac{1}{2} + \frac{\sqrt{3}}{2}i\right)$       ד.  $5 - (3 - 2i)$   
 ה.  $(i - 3) + 6i$       ו.  $(i + 2) - (3i - 2) + (7 - 5i)$

11 חשב את ערכי הביטויים הבאים :

א.  $(1 + 4i) \cdot (8 - 2i)$       ב.  $\left(\frac{\sqrt{2}}{2} - \frac{\sqrt{2}}{2}i\right) \cdot \left(\frac{1}{2} + \frac{\sqrt{3}}{2}i\right)$   
 ג.  $(4i - 3) \cdot (4i + 3)$       ד.  $i \cdot (i - 1)$   
 ה.  $(2i + 3) \cdot i$       ו.  $(5i - 1)^2$

12 נתונים שני מספרים מרוכבים  $z_1 = a_1 + b_1i$  ו-  $z_2 = a_2 + b_2i$ .

ידוע כי  $z_1 + z_2$  הוא ממשי וכי  $z_1 - z_2$  הוא מדומה.

א. מצא קשר בין  $a_1$  ל-  $a_2$  וקשר בין  $b_1$  ו-  $b_2$ .

ב. הראה כי המכפלה  $z_1 \cdot z_2$  היא ממשית.

### תשובות סופיות:

1. א.  $i$     ב.  $2i$     ג.  $5i$     ד.  $\sqrt{3}i$     ה.  $\sqrt{5}i$
2. א.  $i$     ב.  $-1$     ג.  $-i$     ד.  $1$     ה.  $i$     ו.  $i$
3. א.  $a = 2, b = 5$     ב.  $a = 3, b = -1$     ג.  $a = \frac{\sqrt{3}}{2}, b = -\frac{1}{2}$     ד.  $a = 0, b = 7$     ה.  $a = -4, b = 0$     ו.  $a = 0, b = 0$
4. א.  $z = -3 + 2i$     ב.  $z = \frac{\sqrt{2}}{2} + \frac{\sqrt{2}}{2}i$
5.  $z = 1.5 + 2.5i$
6. א.  $x = \pm i$     ב.  $x = \pm 6i$     ג.  $x = 1 + 2i, 1 - 2i$
7.  $z = -\frac{1}{2} + \frac{\sqrt{3}}{2}i, -\frac{1}{2} - \frac{\sqrt{3}}{2}i$
8.  $z = 2i, -3i$
9. א.  $7 + i$     ב.  $-3 + 5i$     ג.  $16 + 11i$
10. א.  $-1 + 5i$     ב.  $1 + 3\frac{1}{2}i$     ג.  $-\sqrt{3}i$     ד.  $2 + 2i$     ה.  $-3 + 7i$     ו.  $11 - 7i$
11. א.  $16 + 30i$     ב.  $\frac{\sqrt{6} + \sqrt{2}}{4} + i\left(\frac{\sqrt{6} - \sqrt{2}}{4}\right)$     ג.  $-25$     ד.  $-1 - i$
12. א.  $a_1 = a_2, b_1 = -b_2$     ב. הוכחה.    ג.  $-2 + 3i$     ו.  $-24 - 10i$

## המספר הצמוד:

סיכום כללי:

צמוד קומפלקסי (מרוכב):

לכל מספר מרוכב  $z = a + bi$  קיים מספר צמוד המסומן ב-  $\bar{z}$  וערכו:  $\bar{z} = a - bi$ .

שאלות:

(13) רשום את המספר הצמוד של המספרים המרוכבים הבאים:

א. $2 + 5i$	ב. $3 - i$	ג. $\frac{\sqrt{3}}{2} - \frac{1}{2}i$
ד. $7i$	ה. $-4$	ו. $0$

(14) חשב:

א. $\frac{11 + 2i}{2 - i}$	ב. $\frac{3 + 7i}{2 - 5i}$	ג. $\frac{19 - 9i}{2 - 3i}$
----------------------------	----------------------------	-----------------------------

(15) נתון מספר  $z = 5 - 2i$ . חשב את ערכי הביטויים הבאים:

א. $\frac{1}{z}$	ב. $\frac{z}{z + 3}$	ג. $\frac{z + i}{z - i}$
------------------	----------------------	--------------------------

(16) המספר  $\frac{3 + 4i}{a - i}$  הוא ממשי טהור. מצא את  $a$ .

(17) נתונים שני מספרים מרוכבים  $z_1 = a_1 + b_1i$  ו-  $z_2 = a_2 + b_2i$ .

הראה כי כדי שתוצאת החילוק  $\frac{z_1}{z_2}$  תהיה ממשית טהורה, צריך להתקיים:  $\frac{a_1}{a_2} = \frac{b_1}{b_2}$ .

(18) פתור את המשוואה הבאה:  $3z - 11 = iz - 7i$ .

(19) פתור את המשוואה הבאה:  $iz + 5 = 4i$ .

(20) פתור את מערכת המשוואות הבאה ( $z$  ו- $w$  משתנים מרוכבים):

$$\begin{cases} 3z + iw = 5 - 4i \\ 5iz - 2w = 5 + 8i \end{cases}$$

(21) פתור את המשוואות הבאות שבהן  $a$  ו- $b$  ממשיים:

ב.  $3a - 8 + 5bi = 2b - ai - 3i$

א.  $2a - 3i = 10 + bi$

(22) פתור את המשוואה הבאה:  $2z + 7i = iz + \bar{z} - 3$ .

(23) חשב את ערכי המספרים המרוכבים הבאים:

ב.  $\sqrt{8 + 6i}$

א.  $\sqrt{5 - 12i}$

(24) פתור את המשוואות הריבועיות הבאות:

א.  $(1 - i)z^2 - 2z + i + 1 = 0$

ב.  $(-2 + i)z^2 - (6 + 12i)z + 10 - 25i = 0$

(25) פתור את המשוואה הבאה:  $iz^2 - 2(1 - i)z + 6 + 15i = 0$ .

(26) פתור את המשוואה הבאה:  $z^2 - i\bar{z} + 6 = 0$ .

## תשובות סופיות:

- א.  $2-5i$     ב.  $3+i$     ג.  $\frac{\sqrt{3}}{2} + \frac{1}{2}i$     ד.  $-7i$     ה.  $-4$     ו.  $0$     (13)
- א.  $4+3i$     ב.  $-1+i$     ג.  $.5+3i$     (14)
- א.  $\frac{5}{29} + \frac{2}{29}i$     ב.  $\frac{11}{17} - \frac{3}{34}i$     ג.  $\frac{14}{17} + \frac{5}{17}i$     (15)
- א.  $a = -\frac{3}{4}$     (16)
- שאלת הוכחה.    (17)
- א.  $z = 4-i$     (18)
- א.  $z = 4+5i$     (19)
- א.  $z = 2-3i, w = 5+i$     (20)
- א.  $a = 5, b = -3$     ב.  $a = 2, b = -1$     (21)
- א.  $z = -\frac{1}{2} - 2\frac{1}{2}i$     (22)
- א.  $z = \pm(3-2i)$     ב.  $z = \pm(3+i)$     (23)
- א.  $z_{1,2} = i, 1$     ב.  $z_{1,2} = -2-i, 2-5i$     (24)
- א.  $z_1 = -2-5i, z_2 = 3i$     (25)
- א.  $z_1 = -3i, z_2 = 2i$     (26)

## חקירת משוואה ריבועית מרוכבת:

שאלות:

(27) נתונה המשוואה הבאה:  $(mi-2)z^2 - 2(m+2i)z + 1 = 0$

מצא לאלו ערכים של הפרמטר המרוכב  $m$  למשוואה:

א. יש פתרון יחיד.

ב. אין פתרון.

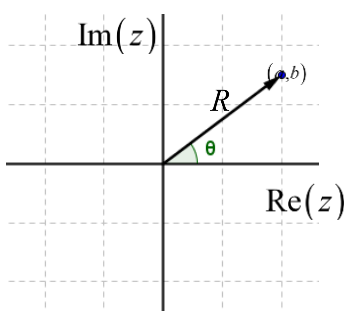
תשובות סופיות:

(27) א.  $m = -i$  ב.  $m = -2i$ .

## מישור גאוס והצגה קוטבית של מספר מרוכב:

### סיכום כללי:

ניתן לאפיין מספר מרוכב  $z$  ע"י הצגתו במישור שבו ציר ה- $x$  מייצג את  $a$ , גודל הערך הממשי של  $z$ , וציר ה- $y$  מייצג את  $b$ , גודל הערך המדומה של  $z$ . מישור זה נקרא מישור גאוס ומופיע באיור הסמוך.



במישור גאוס ניתן לאפיין כל נקודה ע"י הזוג  $(a, b)$  או ע"י הערך המוחלט של המספר (מרחקו מ- $(0, 0)$ ) והזווית שלו בין הקרן החיובית של הציר הממשי לרדיוס. הצמד הנ"ל מוגדר כהצגה קוטבית של מספר מרוכב ויסומן:  $(R, \theta)$ . מספר מרוכב בהצגה קוטבית:

$$z = R \cos \theta + i \cdot R \sin \theta = R(\cos \theta + i \sin \theta) = R \operatorname{cis} \theta$$

### נוסחאות ומעברים:

- מעבר מהצגה קוטבית לקרטזית (אלגברית):  $R = \sqrt{a^2 + b^2}$ ,  $\tan \theta = \frac{b}{a}$ .
- מעבר מהצגה קרטזית לקוטבית:  $a = R \cos \theta$ ,  $b = R \sin \theta$ .
- גודל של מספר מרוכב  $z$  יסומן  $|z|$  ויחושב:  $|z| = R = \sqrt{a^2 + b^2}$ .

### פעולות חשבון בהצגה קוטבית:

- כפל מספרים מרוכבים:  $z_1 \cdot z_2 = (R_1 \operatorname{cis} \theta_1) \cdot (R_2 \operatorname{cis} \theta_2) = R_1 R_2 \operatorname{cis}(\theta_1 + \theta_2)$ .
- חילוק מספרים מרוכבים:  $\frac{z_1}{z_2} = \frac{R_1 \operatorname{cis} \theta_1}{R_2 \operatorname{cis} \theta_2} = \frac{R_1}{R_2} \operatorname{cis}(\theta_1 - \theta_2)$ .

**שאלות:**

**(28)** כתוב את המספרים המרוכבים הבאים בהצגה אלגברית:

- |                             |                           |                           |
|-----------------------------|---------------------------|---------------------------|
| א. $2\text{cis}60^\circ$    | ב. $6\text{cis}135^\circ$ | ג. $4\text{cis}330^\circ$ |
| ד. $4\text{cis}(-30^\circ)$ | ה. $4\text{cis}690^\circ$ | ו. $8\text{cis}90^\circ$  |
| ז. $3\text{cis}270^\circ$   | ח. $\text{cis}180^\circ$  | ט. $\text{cis}0^\circ$    |

**(29)** הפוך להצגה קוטבית:

- |           |                 |                                       |
|-----------|-----------------|---------------------------------------|
| א. $1+i$  | ב. $\sqrt{3}-i$ | ג. $-\frac{1}{2}-\frac{\sqrt{3}}{2}i$ |
| ד. $3+4i$ | ה. $6i$         | ו. $-i$                               |
| ז. $4$    | ח. $-1$         | ט. $1$                                |
| י. $0$    |                 |                                       |

**(30)** חשב את ערכי הביטויים הבאים:

- |  |   |
|--|---|
| א. $2\text{cis}120^\circ \cdot 3\text{cis}60^\circ$    | ב. $\text{cis}210^\circ \cdot 5\text{cis}(-40^\circ)$ |
| ג. $\frac{12\text{cis}315^\circ}{3\text{cis}90^\circ}$ | ד. $\frac{1}{2\text{cis}40^\circ}$                    |
| ה. $6\text{cis}30^\circ + 2\text{cis}210^\circ$        |   |

**(31)** נתון המספר המרוכב  $z = R\text{cis}\theta$ . הבע באמצעות  $R$  ו- $\theta$  את המספרים:

- |                   |          |                      |
|-------------------|----------|----------------------|
| א. $\bar{z}$      | ב. $1/z$ | ג. $-z$              |
| ד. $-\frac{1}{z}$ | ה. $iz$  | ו. $z \cdot \bar{z}$ |

**(32)** הראה כי המספרים הבאים הם ממשיים טהורים:

- |                  |                      |  |
|------------------|----------------------|--|
| א. $z + \bar{z}$ | ב. $z \cdot \bar{z}$ | ג. $\frac{z}{\bar{z}} + \frac{\bar{z}}{z}$ |
|------------------|----------------------|--|

**(33)** הראה כי המספרים הבאים הם מדומים טהורים:

- |                      |                                      |
|----------------------|--------------------------------------|
| א. $z^2 - \bar{z}^2$ | ב. $\frac{1}{\bar{z}} - \frac{1}{z}$ |
|----------------------|--------------------------------------|

(34) הוכח את הטענות הבאות:

א.  $z - i\bar{z} = \overline{\bar{z} + iz}$       ב.  $z \cdot \bar{z} = |z|^2$

(35) מצא את קדקודיו של ריבוע החסום במעגל קנוני שרדיוסו  $\sqrt{2}$  במישור גאוס אם ידוע שצלעותיו מקבילות לצירים.

(36) ריבוע חסום במעגל קנוני במישור גאוס. אחד מקודקודי הריבוע הוא  $1 + \sqrt{3}i$ . מצא את קדקודיו האחרים.

(37) משולש שווה צלעות חסום במעגל קנוני במישור גאוס. אחד מקודקודי המשולש הוא  $1 + \sqrt{3}i$ . מצא את קדקודיו האחרים.

(38) משולש שווה שוקיים, שזווית הבסיס שלו היא  $30^\circ$  חסום במעגל קנוני במישור גאוס. קדקוד הראש של המשולש הוא  $1 + \sqrt{3}i$ . מצא את קדקודיו האחרים.

(39)  $z$  הוא מספר מרוכב במישור גאוס הנמצא מחוץ למעגל היחידה. קבע אם המספרים הבאים נמצאים בתוך מעגל היחידה, עליו או מחוץ לו:

א.  $\bar{z}$       ב.  $\frac{1}{z}$       ג.  $\frac{z}{\bar{z}}$       ד.  $z \cdot \bar{z}$

## תשובות סופיות:

- (28) א.  $1 + \sqrt{3}i$     ב.  $-3\sqrt{2} + 3\sqrt{2}i$     ג.  $2\sqrt{3} - 2i$     ד.  $2\sqrt{3} - 2i$
- ה.  $2\sqrt{3} - 2i$     ו.  $8i$     ז.  $-3i$     ח.  $-1$     ט.  $1$
- (29) א.  $\sqrt{2}\text{cis}45^\circ$     ב.  $2\text{cis}330^\circ$     ג.  $\text{cis}240^\circ$     ד.  $5\text{cis}53.13^\circ$
- ה.  $6\text{cis}90^\circ$     ו.  $\text{cis}270^\circ$     ז.  $4\text{cis}0^\circ$     ח.  $\text{cis}180^\circ$     ט.  $\text{cis}0^\circ$
- (30) א.  $-6$     ב.  $5\text{cis}170^\circ$     ג.  $4\text{cis}225^\circ$     ד.  $\frac{1}{2}\text{cis}(-40^\circ)$
- ה.  $4\text{cis}30^\circ$
- (31) א.  $R\text{cis}(-\theta)$     ב.  $\frac{1}{R}\text{cis}(-\theta)$     ג.  $R\text{cis}(180^\circ + \theta)$
- ד.  $\frac{1}{R}\text{cis}(180^\circ + \theta)$     ה.  $R\text{cis}(90^\circ + \theta)$     ו.  $R^2$
- (32) שאלת הוכחה.
- (33) שאלת הוכחה.
- (34) שאלת הוכחה.
- (35)  $1+i, -1+i, -1-i, 1-i$
- (36)  $-\sqrt{3}+i, -1-\sqrt{3}i, \sqrt{3}-i$
- (37)  $1+\sqrt{3}i, 1-\sqrt{3}i, -2$
- (38)  $1+\sqrt{3}i, -1+\sqrt{3}i, 2$
- (39) א. מחוץ למעגל.    ב. בתוך המעגל    ג. על המעגל    ד. מחוץ למעגל.

## נוסחת דה-מואבר למציאת שורשים של מספר מרוכב:

סיכום כללי:

משפט דה-מואבר:

כדי להעלות מספר מרוכב  $z$  בחזקת  $n$  נעזר בקשר:  $(R\text{cis}\theta)^n = R^n\text{cis}(n\theta)$ .

שורשים של מספר מרוכב:

כדי להוציא שורש  $n$ -י של מספר מרוכב  $z$  השווה למספר מרוכב אחר  $z_0 = R_0\text{cis}\theta_0$

$$\cdot z^n = z_0 = R_0\text{cis}\theta_0 / \sqrt[n]{\phantom{x}} \Rightarrow z_k = \sqrt[n]{R_0} \cdot \text{cis}\left(\frac{\theta_0}{n} + \frac{2\pi k}{n}\right) : 1 \leq k \leq n$$

שאלות:

40 חשב את ערכי הביטויים הבאים תוך שימוש בנוסחת דה-מואבר:

א.  $(2\text{cis}30^\circ)^3$       ב.  $(2\text{cis}14^\circ)^5$       ג.  $(1+i)^4$

ד.  $(\sqrt{3}-i)^3$       ה.  $\left(-\frac{1}{2} + \frac{\sqrt{3}}{2}i\right)^{12}$

41 פתור את המשוואות הבאות:

א.  $z^2 = 36\text{cis}120^\circ$       ב.  $z^4 = (9\text{cis}80^\circ)^2$       ג.  $z^5 = \frac{1}{2} + \frac{\sqrt{3}}{2}i$

42 מצא את סכום ומכפלת שורשי היחידה מסדר 4.

43 נתון המספר המרוכב  $z = x+iy$ .

מצא את המקום הגאומטרי במישור גאוס המתקבל בעבור המשוואה:  $|z|=2$ .

(44) נתון המספר המרוכב  $z = x + iy$ .

מצא את המקום הגאומטרי במישור גאוס המתקבל בעבור המשוואה:  $|z - 3i| = 5$ .

(45) נתון המספר המרוכב  $z = x + iy$ . מצא את המקום הגאומטרי במישור גאוס

המתקבל בעבור המשוואה:  $|z + i| + |\bar{z} + i| = |1 + 3i|$ .

### תשובות סופיות:

(40) א.  $8i$       ב.  $32\text{cis}70^\circ$       ג.  $-4$       ד.  $-8i$       ה.  $1$ .

(41) א.  $z_0 = 6\text{cis}60^\circ$ ,  $z_1 = 6\text{cis}240^\circ$ .

ב.  $z_0 = 3\text{cis}40^\circ$ ,  $z_1 = 3\text{cis}130^\circ$ ,  $z_2 = 3\text{cis}220^\circ$ ,  $z_3 = 3\text{cis}310^\circ$ .

ג.  $z_0 = \text{cis}12^\circ$ ,  $z_1 = \text{cis}84^\circ$ ,  $z_2 = \text{cis}156^\circ$ ,  $z_3 = \text{cis}228^\circ$ ,  $z_4 = \text{cis}300^\circ$ .

(42) סכום:  $0$ , מכפלה:  $-1$ .

(43)  $x^2 + y^2 = 4$ .

(44)  $x^2 + (y - 3)^2 = 25$ .

(45)  $\frac{2x^2}{3} + \frac{2y^2}{5} = 1$ .

## שאלות בסדרות עם מספרים מרוכבים:

### שאלות:

(46) בסדרה חשבונית האיבר השביעי הוא  $a_7 = 13 + 3i$  והאיבר השלישי הוא  $a_3 = 5 - 9i$ . מצא את סכום עשרת האיברים הראשונים בסדרה.

(47) בסדרה הנדסית האיבר החמישי הוא  $a_5 = 32 + 16i$  והאיבר השני הוא  $a_2 = 2 - 4i$ .  
 א. מצא את האיבר הראשון בסדרה ואת מנת הסדרה, אם נתון שמנת הסדרה היא מספר מרוכב הנמצא על הציר המדומה במישור גאוס.  
 ב. מצא את סכום חמשת האיברים הראשונים בסדרה.

(48) נתונים שלושה איברים סמוכים בסדרה הנדסית. האיבר הראשון ביניהם הוא 2. נתון כי אם מוסיפים לאיבר השלישי  $4i$  מתקבלים שלושה איברים סמוכים בסדרה חשבונית. מצא את שלושת איברי הסדרה ההנדסית (שתי אפשרויות).

### תשובות סופיות:

$$S_{10} = 100 - 15i \quad (46)$$

$$a_1 = 2 + i, q = -2i \quad (47) \quad \text{א.} \quad \text{ב. } S_5 = 20 + 25i$$

$$2, 2i, -2 \quad \text{או} \quad 2, 4 - 2i, 6 - 8i \quad (48)$$

## שאלות שונות עם מספרים מרוכבים:

### שאלות:

(49) פתור את המשוואה:  $z - \bar{z} + |z| = |2 - i|^2 - 4i + \text{Im}(z)$ .

(50) פתור את המשוואה:  $|2 - 3^{x^2 - x - 1}i| = \sqrt{13}$ .

(51) פתור את המשוואה:  $z^3 = \bar{z}$ .

(52) הוכח: אם מקדמי משוואה ריבועית הם מספרים ממשיים ואין למשוואה פתרונות ממשיים אז פתרונות המשוואה הם שני מספרים צמודים.

(53) נתונים שני מספרים מרוכבים שאינם ממשיים טהורים. הוכח: אם סכום המספרים ממשי ומכפלתם ממשית אז המספרים צמודים.

(54) נתון מספר מרוכב  $z$ , שאינו ממשי טהור ואינו מדומה טהור.

הוכח כי אם  $z - \frac{1}{\bar{z}}$  ממשי אז  $z$  על מעגל היחידה.

(55) הוכח את הנוסחה הבאה:  $R_1 \text{cis} \theta_1 \cdot R_2 \text{cis} \theta_2 = R_1 R_2 \text{cis}(\theta_1 + \theta_2)$ .

(56) הוא מספר מרוכב על מעגל היחידה ברביע הראשון.

נתון:  $|z^4 - z^3| = \sqrt{2 - \sqrt{3}}$ . מצא את  $\arg(z)$ .

(57) הוא מספר מרוכב על מעגל היחידה.

מצא את ערך הביטוי  $z + iz$ , אם ידוע שהוא ממשי.

(58)  $z_1$  ו-  $z_2$  הם פתרונות המשוואה הבאה:  $z^2 - 2\cos\theta \cdot z + 1 = 0$ .  
 הבע באמצעות  $\theta$  את גודל הזווית  $\angle z_1 O z_2$  (O ראשית הצירים).

### תשובות סופיות:

(49)  $z_1 = 3 - 4i$ ,  $z_2 = -3 - 4i$

(50)  $x = 2$ ,  $-1$

(51)  $z_1 = 0$ ,  $z_2 = i$ ,  $z_3 = -i$ ,  $z_4 = 1$ ,  $z_5 = -1$

(52) שאלת הוכחה.

(53) שאלת הוכחה.

(54) שאלת הוכחה.

(55) שאלת הוכחה.

(56)  $\arg(z) = 30^\circ$

(57)  $z + iz = \sqrt{2}$ ,  $-\sqrt{2}$

(58)  $2\theta$

# מכינה למבחן פטור (חדוא 0)

פרק 13 - חשבון דיפרנציאלי - נגזרות ומשיקים

תוכן העניינים

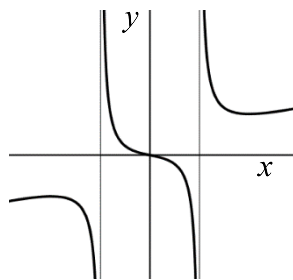
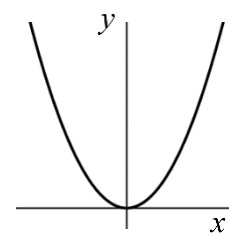
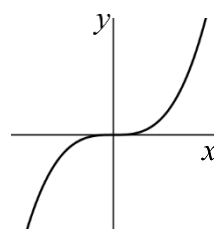
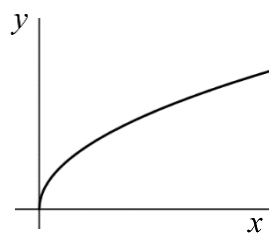
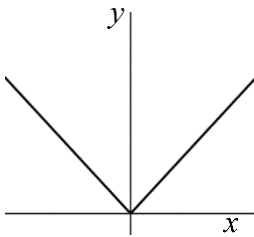
233	1. הקדמה כללית
234	2. גזירת פונקציות
240	3. מציאת שיפוע המשיק לגרף הפונקציה
241	4. מציאת משוואת המשיק לגרף הפונקציה
244	5. שאלות עם פרמטרים
246	6. שאלות העוסקות במציאת משוואת משיק מנקודה חיצונית

## הקדמה כללית:

### סיכום כללי:

### פונקציות נפוצות:

הפונקציה  $f(x) = x^2$  : הפונקציה  $f(x) = x^3$  : הפונקציה  $f(x) = \sqrt{x}$  : הפונקציה  $f(x) = |x|$  :



פונקציה עם מכנה, למשל:  $f(x) = \frac{5x^3 + 4x}{x^2 - 1}$  :

### שיפוע של פונקציה:

- השיפוע  $m$  של פונקציה  $f(x)$  בנקודה  $A(x_1, y_1)$  שעל הפונקציה הוא ערך הנגזרת בנקודה  $A(x_1, y_1)$ , כלומר:  $m = f'(x_1)$ .
- השיפוע של המשיק לפונקציה  $f(x)$  בנקודה  $A(x_1, y_1)$  שעל הפונקציה שווה לשיפוע הפונקציה בנקודה  $A(x_1, y_1)$ .
- משוואת המשיק לפונקציה  $f(x)$  בנקודה  $A(x_1, y_1)$  שעליה מתקבלת על ידי הנוסחה למציאת ישר:  $y - y_1 = m(x - x_1)$ .

### הנגזרת:

לכל פונקציה  $f(x)$  קיימת פונקציה, הנקראת פונקציית הנגזרת (או רק "הנגזרת") ומסומנת  $f'(x)$ , המתקבלת ממנה על פי כללי הגזירה.

## גזירת פונקציות:

### סיכום כללי:

#### כללי הגזירה:

- כלל גזירה מס' 1:  $f(x) = x^n \Rightarrow f'(x) = n \cdot x^{n-1}$
- כלל גזירה מס' 2 (כפל בקבוע):  $f(x) = ax^n \Rightarrow f'(x) = n \cdot ax^{n-1}$
- כלל גזירה מס' 3 (נגזרת של קבוע):  $f(x) = a \Rightarrow f'(x) = 0$
- כלל גזירה מס' 4 (סכום והפרש):  $f(x) = u \pm v \Rightarrow f'(x) = u' \pm v'$
- כלל גזירה מס' 5 (פונקציה מורכבת):  $f(x) = u^n \Rightarrow f'(x) = n \cdot u^{n-1} \cdot u'$
- כלל גזירה מס' 6 (נגזרת של  $\frac{1}{x}$ ):  $f(x) = \frac{1}{x} \Rightarrow f'(x) = -\frac{1}{x^2}$
- כלל גזירה מס' 7 (מכפלה):  $f(x) = u \cdot v \Rightarrow f'(x) = u'v + v'u$
- כלל גזירה מס' 8 (מנה):  $f(x) = \frac{u}{v} \Rightarrow f'(x) = \frac{u'v - uv'}{v^2}$
- כלל גזירה מס' 9 (שורש):  $f(x) = \sqrt{x} \Rightarrow f'(x) = \frac{1}{2\sqrt{x}}$

### שאלות:

#### (1) גזור את הפונקציות הבאות:

- |                             |                             |                             |
|-----------------------------|-----------------------------|-----------------------------|
| א. $f(x) = x^3$             | ב. $f(x) = x^7$             | ג. $f(x) = x^2$             |
| ד. $f(x) = x$               | ה. $f(x) = x^{-3}$          | ו. $f(x) = x^{-1}$          |
| ז. $f(x) = x^{\frac{1}{2}}$ | ח. $f(x) = x^{\frac{1}{3}}$ | ט. $f(x) = x^{\frac{3}{4}}$ |

#### (2) גזור את הפונקציות הבאות:

- |                           |                              |                                       |
|---------------------------|------------------------------|---------------------------------------|
| א. $f(x) = 2x^3$          | ב. $f(x) = 3x^7$             | ג. $f(x) = \frac{1}{2}x^4$            |
| ד. $f(x) = \frac{x^6}{7}$ | ה. $f(x) = 8x$               | ו. $f(x) = 3x^{-2}$                   |
| ז. $f(x) = \frac{4}{x}$   | ח. $f(x) = 6x^{\frac{1}{2}}$ | ט. $f(x) = \frac{x^{\frac{2}{3}}}{3}$ |

(3) גזור את הפונקציות הבאות:

$$f(x) = 12 \quad \text{א.} \quad f(x) = \frac{7}{8} \quad \text{ב.}$$

(4) גזור את הפונקציות הבאות:

$$f(x) = x^3 + 2x^2 - 3x + 5 \quad \text{א.} \quad f(x) = \frac{1}{4}x^4 - \frac{x^3}{6} + \frac{3x}{4} - \frac{2}{5} \quad \text{ב.}$$

$$f(x) = 7x^2 + 23x - 6 \quad \text{ג.} \quad f(x) = 6x^2 + 8x + 4 \quad \text{ד.}$$

$$f(x) = \frac{1}{2}x^2 - x^3 \quad \text{ה.} \quad f(x) = \frac{x^4}{8} + 67 \quad \text{ו.}$$

(5) גזור את הפונקציות הבאות:

$$f(x) = (5x - 2)^3 \quad \text{א.} \quad f(x) = (x^3 + 6)^5 \quad \text{ב.} \quad f(x) = 3(x - x^2)^2 \quad \text{ג.}$$

$$f(x) = \frac{(5-x)^3}{4} \quad \text{ד.} \quad f(x) = \frac{2(x+1)^4}{3} \quad \text{ה.}$$

(6) גזור את הפונקציות הבאות:

$$f(x) = \frac{3}{x} \quad \text{א.} \quad f(x) = -\frac{2}{x} \quad \text{ב.} \quad f(x) = \frac{1}{x^2} \quad \text{ג.}$$

$$f(x) = \frac{3}{x^3} \quad \text{ד.} \quad f(x) = \frac{1}{x^2 - 3x} \quad \text{ה.} \quad f(x) = \frac{2}{3-x} \quad \text{ו.}$$

$$f(x) = \frac{6}{x+5} \quad \text{ז.}$$

(7) גזור את הפונקציות הבאות:

$$f(x) = (5x+1)(x-3) \quad \text{א.} \quad f(x) = (5x+1)^3(x-3) \quad \text{ב.}$$

$$f(x) = x^3(6-x)^4 \quad \text{ג.} \quad f(x) = 3x^2 \cdot x \quad \text{ד.}$$

$$f(x) = x^2 \cdot x^3 \quad \text{ה.} \quad f(x) = x(3x+7) \quad \text{ו.}$$

$$f(x) = 3x^3(3x-1) \quad \text{ז.} \quad f(x) = (x-2)(2x^2+3) \quad \text{ח.}$$

$$f(x) = (3x-2)(x^2+10x) \quad \text{ט.} \quad f(x) = (3x^4-4x)(2x^2+5x+2) \quad \text{י.}$$

$$f(x) = x(x-2)(3x-4) \quad \text{יא.}$$

8) גזור את הפונקציות הבאות :

א.  $f(x) = (x^2 - 4)^2$

ג.  $f(x) = (x^3 + 2)^2 (x - 1)^3$

ב.  $f(x) = 2x^3 (3x + 5)^2$

ד.  $f(x) = (x^2 + 1)^3 (2x - 1)^2$

9) גזור את הפונקציות הבאות :

א.  $f(x) = \frac{3x - 1}{1 + 2x}$

ד.  $f(x) = \frac{x^2 + 8}{x - 1}$

ו.  $f(x) = \frac{(x - 1)^2}{x + 1}$

ז.  $f(x) = \frac{x - 2}{x^2 - 4}$

ב.  $f(x) = \frac{x^2 + 1}{5x - 12}$

ה.  $f(x) = \frac{1}{x}$

ח.  $f(x) = \frac{(x^2 + 3)^2}{x^2 - 2}$

ג.  $f(x) = \frac{x^2 - 1}{x^2 + 3}$

ו.  $f(x) = \frac{3}{x^3}$

ט.  $f(x) = \frac{x^3 - x^2}{2(1 - x)}$

10) גזור את הפונקציות הבאות :

א.  $f(x) = \sqrt{x}$

ד.  $f(x) = (3x + 1)\sqrt{x}$

ב.  $f(x) = 4\sqrt{x + 1}$

ה.  $f(x) = x^2\sqrt{x + 3}$

ג.  $f(x) = \sqrt{x^3 - 1}$

ו.  $f(x) = \frac{x + 3}{\sqrt{x}}$

11) גזור את הפונקציות הבאות :

א.  $f(x) = \sqrt{x + 1}$

ג.  $f(x) = \sqrt{3x^2 + 1}$

ה.  $f(x) = \sqrt{2x^2 + 7x}$

ו.  $f(x) = x^2\sqrt{1 - 2x}$

ט.  $f(x) = \frac{x\sqrt{x^2 + 4}}{2}$

יא.  $f(x) = \frac{2x^3 - x^2 + x - 5\sqrt{x}}{x\sqrt{x}}$

יג.  $f(x) = \sqrt{\frac{1 + x^2}{1 - x}}$

ב.  $f(x) = \sqrt{2x}$

ד.  $f(x) = \sqrt{10 - 3x}$

ו.  $f(x) = 3x^2 - 8\sqrt{x}$

ח.  $f(x) = \frac{\sqrt{x}}{x}$

י.  $f(x) = \frac{x + 3}{\sqrt{1 - x^2}}$

יב.  $f(x) = \sqrt{\frac{3 - x}{x}}$

יד.  $f(x) = \frac{x^2 + 7}{\sqrt{x^2 - 5}}$

$$f(x) = \frac{\sqrt{x+1}}{x-1} \quad \text{ט.ז.}$$

$$f(x) = \frac{\sqrt{x}}{x-1} \quad \text{ט.ו.}$$

**(12)** גזור את הפונקציות הבאות:

$$f(x) = \frac{x-2a}{x-4a} \quad \text{ג.} \quad f(x) = \frac{ax^2}{3} - \frac{x}{b} + c \quad \text{ב.}$$

$$f(x) = ax^4 - bx \quad \text{א.}$$

$$f(x) = a\sqrt{bx^2 + c} \quad \text{ד.}$$

**(13)** גזור פעמיים את הפונקציות הבאות:

$$f(x) = \frac{x^2 - 5x + 6}{2x + 10} \quad \text{ב.}$$

$$f(x) = \frac{x^2 + 2x + 4}{2x} \quad \text{א.}$$

$$f(x) = \frac{x^3}{x^2 - 4} \quad \text{ד.}$$

$$f(x) = \frac{2x^2}{(x+1)^2} \quad \text{ג.}$$

$$f(x) = \left(\frac{x+1}{x-1}\right)^3 \quad \text{ו.}$$

$$f(x) = \frac{x^3}{(x+1)^2} \quad \text{ה.}$$

**תשובות סופיות:**

- (1) א.  $3x^2$     ב.  $7x^6$     ג.  $2x$     ד. 1    ה.  $-\frac{3}{x^4}$     ו.  $-\frac{1}{x^2}$
- ז.  $\frac{1}{2\sqrt{x}}$     ח.  $\frac{1}{3\sqrt[3]{x^2}}$     ט.  $\frac{3}{4\sqrt[4]{x}}$
- (2) א.  $6x^2$     ב.  $21x^6$     ג.  $2x^3$     ד.  $\frac{6x^5}{7}$     ה. 8
- ו.  $-\frac{6}{x^3}$     ז.  $-\frac{4}{x^2}$     ח.  $\frac{3}{\sqrt{x}}$     ט.  $\frac{2}{9\sqrt[3]{x}}$
- (3) א. 0    ב. 0
- (4) א.  $3x^2 + 4x - 3$     ב.  $x^3 - \frac{x^2}{2} + \frac{3}{4}$     ג.  $14x + 23$     ד.  $12x + 8$     ה.  $x - 3x^2$     ו.  $0.5x^3$
- (5) א.  $15(5x - 2)^2$     ב.  $15x^2(x^3 + 6)^4$     ג.  $6(x - x^2)(1 - 2x)$
- ד.  $-\frac{3}{4}(5 - x)^2$     ה.  $\frac{8(x + 1)^3}{3}$
- (6) א.  $-\frac{3}{x^2}$     ב.  $\frac{2}{x^2}$     ג.  $-\frac{2}{x^3}$     ד.  $\frac{9}{x^4}$     ה.  $-\frac{2x - 3}{(x^2 - 3x)^2}$
- ו.  $\frac{2}{(3 - x)^2}$     ז.  $-\frac{6}{(x + 5)^2}$
- (7) א.  $10x - 14$     ב.  $(5x + 1)^2(20x - 44)$     ג.  $x^2(6 - x)^3(18 - 7x)$
- ד.  $9x^2$     ה.  $5x^4$     ו.  $6x + 7$     ז.  $36x^3 - 9x^2$     ח.  $6x^2 - 8x + 3$
- ט.  $9x^2 + 56x - 20$     י.  $36x^5 + 75x^4 + 24x^3 - 24x^2 - 40x - 8$     יא.  $9x^2 - 20x + 8$
- (8) א.  $4x(x^2 - 4)$     ב.  $30x^2(x + 1)(3x + 5)$     ג.  $3(x - 1)^2(x^3 + 2)(3x^3 - 2x^2 + 2)$
- ד.  $2(2x - 1)(x^2 + 1)^2(8x^2 - 3x + 2)$
- (9) א.  $\frac{5}{(1 + 2x)^2}$     ב.  $\frac{5x^2 - 24x - 5}{(5x - 12)^2}$     ג.  $\frac{8x}{(x^2 + 3)^2}$     ד.  $\frac{(x - 4)(x + 2)}{(x - 1)^2}$
- ה.  $-\frac{1}{x^2}$     ו.  $-\frac{9}{x^4}$     ז.  $\frac{x^2 + 2x - 3}{(x + 1)^2}$
- ח.  $\frac{2x(x^2 + 3)(x^2 - 7)}{(x^2 - 2)^2}$     ט.  $-x$     י.  $-\frac{1}{(x + 2)^2}$

$$\frac{x(5x+12)}{2\sqrt{x+3}} \cdot \text{ה} \quad \frac{9x+1}{2\sqrt{x}} \cdot \text{ז} \quad \frac{3x^2}{2\sqrt{x^3-1}} \cdot \text{ג} \quad \frac{2}{\sqrt{x+1}} \cdot \text{ב} \quad \frac{1}{2\sqrt{x}} \cdot \text{א} \quad (10)$$

$$\frac{x-3}{2x\sqrt{x}} \cdot \text{ו}$$

$$\frac{4x+7}{2\sqrt{2x^2+7x}} \cdot \text{ה} \quad -\frac{3}{2\sqrt{10-3x}} \cdot \text{ז} \quad \frac{3x}{\sqrt{3x^2+1}} \cdot \text{ג} \quad \frac{1}{\sqrt{2x}} \cdot \text{ב} \quad \frac{1}{2\sqrt{x+1}} \cdot \text{א} \quad (11)$$

$$\frac{1-3x}{(1-x^2)^{1.5}} \cdot \text{ו} \quad \frac{x^2+2}{\sqrt{x^2+4}} \cdot \text{ט} \quad -\frac{1}{2x\sqrt{x}} \cdot \text{ה} \quad \frac{2x-5x^2}{\sqrt{1-2x}} \cdot \text{ז} \quad 6x - \frac{4}{\sqrt{x}} \cdot \text{ו}$$

$$\frac{-x^2+2x+1}{2(1-x)^{1.5}\sqrt{1+x^2}} \cdot \text{ז} \quad -\frac{3}{2x\sqrt{3x-x^2}} \cdot \text{ב} \quad 3\sqrt{x} - \frac{1}{2\sqrt{x}} - \frac{1}{2x\sqrt{x}} + \frac{5}{x^2} \cdot \text{א}$$

$$-\frac{x+3}{2(x-1)^2\sqrt{x+1}} \cdot \text{ט} \quad -\frac{x+1}{2\sqrt{x}(x-1)^2} \cdot \text{ט} \quad \frac{x^3-17x}{(x^2-5)^{1.5}} \cdot \text{ז}$$

$$\frac{abx}{\sqrt{bx^2+c}} \cdot \text{ז} \quad \frac{-2a}{(x-4a)^2} \cdot \text{ג} \quad \frac{2ax}{3} - \frac{1}{b} \cdot \text{ב} \quad 4ax^3 - b \cdot \text{א} \quad (12)$$

$$f'(x) = \frac{2x^2-8}{4x^2}, f''(x) = \frac{4}{x^3} \cdot \text{א} \quad (13)$$

$$f'(x) = \frac{2x^2+20x-62}{(2x+10)^2}, f''(x) = \frac{448}{(2x+10)^3} \cdot \text{ב}$$

$$f'(x) = \frac{4x}{(x+1)^3}, f''(x) = \frac{4(1-2x)}{(x+1)^4} \cdot \text{ג}$$

$$f'(x) = \frac{x^2(x^2-12)}{(x^2-4)^2}, f''(x) = \frac{8x(x^2+12)}{(x^2-4)^3} \cdot \text{ד}$$

$$f'(x) = \frac{x^2(x+3)}{(x+1)^3}, f''(x) = \frac{6x}{(x+1)^4} \cdot \text{ה}$$

$$f'(x) = -\frac{6(x+1)^2}{(x-1)^4}, f''(x) = \frac{12(x+1)(x+3)}{(x-1)^5} \cdot \text{ו}$$

## מציאת שיפוע המשיק לגרף הפונקציה:

שאלות:

(14) מצא את שיפוע הפונקציה  $f(x) = 2x^3 - 7x$  בנקודה  $(2, 2)$ .

(15) מצא את שיפוע הפונקציה  $f(x) = \frac{1}{x^2 - 3}$  בנקודה בה  $x = -2$ .

(16) מצא את שיפוע המשיק לפונקציה  $f(x) = 4\sqrt{x}$  בנקודה בה  $x = 1$ .

תשובות סופיות:

$$m = 17 \quad (14)$$

$$m = 4 \quad (15)$$

$$m = 2 \quad (16)$$

## מציאת משוואת המשיק לגרף הפונקציה:

---

שאלות:

(17) מצא את משוואת המשיק לפונקציה  $f(x) = 2(4x+3)^3$  בנקודה בה  $x = -1$ .

(18) מצא את משוואת המשיק לפונקציה  $f(x) = \frac{8}{x+1}$  בנקודה בה  $y = 2$ .

(19) מצא את משוואות המשיקים לפונקציה  $f(x) = x^2 - 2x - 8$  בנקודות החיתוך שלה עם ציר ה- $x$ .

(20) מצא את משוואת המשיק לפונקציה  $f(x) = x^4 - 2x$  ששיפועו 2.

(21) מצא את משוואת המשיק לפונקציה  $f(x) = \frac{x^3 + 3x - 1}{x^2 - 2}$  בנקודה שבה  $x = 1$ .

(22) נתון כי הישר  $2y - 3x = 3$  משיק לגרף הפונקציה  $f(x) = 3\sqrt{x}$ . מצא את נקודת ההשקה.

(23) מצא את משוואת המשיק לפונקציה  $f(x) = \frac{1}{x} + \sqrt{x}$  בנקודה בה  $x = 1$ .

(24) מצא את משוואת המשיק לפונקציה  $f(x) = 3x^2 - 8\sqrt{x}$  בנקודה בה  $x = 4$ .

(25) נתונה הפונקציה הבאה  $f(x) = 4x - 2\sqrt{x}$ .

א. מצא את משוואת המשיק לגרף הפונקציה המקביל לישר  $f(x) = 3x - \frac{1}{2}$ .

ב. מצא את נקודת החיתוך של המשיק עם ציר ה- $x$ .

(26) מצא את משוואת המשיק לפונקציה  $f(x) = \frac{4}{\sqrt{x-1}}$  ששיפועו -2.

(27) מצא את משוואות המשיק לפונקציה  $f(x) = \frac{x-3}{\sqrt{x^2-x+2}}$  בנקודה שבה  $x=2$ .

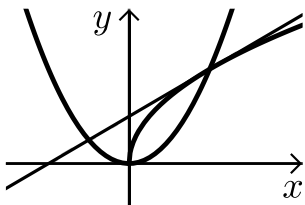
(28) מצא את משוואות המשיקים לפונקציה  $f(x) = \frac{1}{3x^3}$  היוצרים עם הכיוון החיובי של ציר ה- $x$  זווית של  $135^\circ$ .

(29) מצא את משוואות המשיקים המשותפים לפונקציות הבאות:  $y = x^2$ ,  $y = -\frac{1}{4}x^2 - 5$ .

(30) נתונה הפונקציה:  $f(x) = \frac{\sqrt{x^2+3}}{x}$  ונתון הישר:  $y = 2x$ .

- מצא את נקודת החיתוך של הפונקציה והישר הנמצאת ברביע הראשון.
- מצא את משוואות המשיק לגרף הפונקציה בנקודה שמצאת בסעיף הקודם.
- חשב את השטח שנוצר בין המשיק והצירים.

(31) באיור שלפניך מתוארים הגרפים של הפונקציות:  $f(x) = \sqrt{x}$ ,  $g(x) = x^2$ .



- מצא את נקודות החיתוך של הגרפים.
- מצא את משוואת המשיק לגרף הפונקציה  $f(x)$  העובר דרך נקודת החיתוך שמצאת הנמצאת ברביע הראשון.
- מצא את נקודת החיתוך הנוספת של המשיק שמצאת עם גרף הפונקציה  $g(x)$ .

## תשובות סופיות:

$$y = 24x + 22 \quad (17)$$

$$y = -\frac{1}{2}x + 3\frac{1}{2} \quad (18)$$

$$y = 6x - 24, y = -6x - 12 \quad (19)$$

$$y = 2x - 3 \quad (20)$$

$$y = -12x + 9 \quad (21)$$

$$(1, 3) \quad (22)$$

$$y = -\frac{1}{2}x + 2\frac{1}{2} \quad (23)$$

$$y = 22x - 56 \quad (24)$$

$$\left(\frac{1}{3}, 0\right) \text{ ב. } y = 3x - 1 \text{ א. } (25)$$

$$y = -2x + 8 \quad (26)$$

$$y = \frac{11}{16}x - \frac{15}{8} \quad (27)$$

$$y = -x + 1\frac{1}{3}, y = -x - 1\frac{1}{3} \quad (28)$$

$$y = 2x - 1, y = -2x - 1 \quad (29)$$

$$.S = 4\frac{1}{12} \text{ ג.}$$

$$y = -1.5x + 3.5 \text{ ב. } (1, 2) \text{ א. } (30)$$

$$.(-0.5, 0.25) \text{ ג.}$$

$$y = 0.5x + 0.5 \text{ ב. } (0, 0), (1, 1) \text{ א. } (31)$$

**שאלות עם פרמטרים:**

---

**שאלות:**

**(32)** שיפוע המשיק לפונקציה  $f(x) = ax^2 - 4x$  בנקודה שבה  $x = 3$  הוא 8. מצא את ערכו של הפרמטר  $a$  ואת משוואת המשיק.

**(33)** נתונה הפונקציה  $f(x) = \sqrt{ax}$ ,  $(a > 0)$ .

המשיק לפונקציה בנקודה שבה  $x = \frac{1}{2}$  הוא בעל שיפוע 1. מצא את ערך הפרמטר  $a$ .

**(34)** נתונה הפונקציה:  $y = x^3 + a\sqrt{x}$  ( $a$  פרמטר).

שיפוע המשיק לגרף הפונקציה בנקודה שבה  $x = 1$  הוא 5. מצא את ערך הפרמטר  $a$ .

**(35)** נתונה הפונקציה:  $y = 2\sqrt{x} - \frac{A}{x}$  ( $A$  פרמטר).

שיפוע המשיק לגרף הפונקציה בנקודה שבה  $x = 1$  הוא 2. מצא את ערך הפרמטר  $A$ .

**(36)** הישר  $y = 4x + b$  משיק לגרף הפונקציה  $f(x) = \frac{2}{x^2} + 3$ .

מצא את  $b$  ואת נקודת ההשקה.

**(37)** שיפוע המשיק לפונקציה  $f(x) = \frac{2}{ax+3}$  בנקודה שבה  $y = 2$  הוא -4.

מצא את ערכו של הפרמטר  $a$  ואת משוואת המשיק.

**(38)** הישר  $y = ax + \frac{1}{2}$  משיק לגרף הפונקציה  $g(x) = \frac{2}{x+c}$  בנקודה  $x = 0$ .

מצא את ערכי הפרמטרים  $a$  ו- $c$ .

**(39)** הישר  $y = 3x$  משיק לגרף הפונקציה  $f(x) = x\sqrt{x} + b$ .

מצא את  $b$  ואת נקודת ההשקה.

(40) שיפוע המשיק לפונקציה  $f(x) = \frac{a}{\sqrt{bx-1}}$  בנקודה (1, 6) הוא -6.

מצא את ערכי הפרמטרים  $a$  ו- $b$  ואת משוואת המשיק.

(41) לאילו ערכי  $k$  ישיק הישר  $y = -5x + 6$  לגרף הפונקציה  $f(x) = x^3 - 2x^2 - 4x + k$ ?  
לכל ערך כזה של  $k$  מצא את נקודת ההשקה.

(42) הפונקציות  $y = \frac{1}{x}$  ו-  $y = -\frac{1}{2}x^2 + k$  משיקות זו לזו.

מצא את  $k$  ואת נקודת ההשקה.

### תשובות סופיות:

$a = 2, y = 8x - 18$  (32)

$a = 2$  (33)

$a = 4$  (34)

$A = 1$  (35)

$(-1, 5), y = 4x + 9$  (36)

$a = 2, y = -4x - 2$  (37)

$a = -\frac{1}{8}, c = 4$  (38)

$b = 4, (4, 12)$  (39)

$b = 2, a = 6, y = -6x + 12$  (40)

$k = \frac{158}{27} : \left(\frac{1}{3}, \frac{13}{3}\right)$  או  $k = 6 : (1, 1)$  (41)

$(1, 1), k = 1.5$  (42)

## שאלות העוסקות במציאת משוואת משיק מנקודה חיצונית:

---

### שאלות:

43) ענה על הסעיפים הבאים:

- א. בטא באמצעות  $t$  את משוואת המשיק לפונקציה  $f(x) = x^2 + 1$  בנקודה שבה  $x = t$ .
- ב. מצא את ערכיו של  $t$  אם נתון שהמשיק עובר בנקודה  $(-1, 1)$ .

44) מצא את משוואות המשיקים לגרף הפונקציה:  $f(x) = 5x - x^2$  העוברים דרך הנקודה  $(3, 7)$ .

45) מצא את משוואות המשיקים לגרף הפונקציה:  $f(x) = x^2 + 5x - 6$  העוברים דרך הנקודה  $(0, -10)$ .

46) מצא את משוואות המשיקים לגרף הפונקציה:  $f(x) = 12x - x^3$  העוברים דרך הנקודה  $(2, 24)$ .

47) מצא את משוואת המשיק לפונקציה  $f(x) = \frac{1}{\sqrt{x}}$  העובר בנקודה  $(3, 0)$ .

48) מצא משוואת המשיק לפונקציה:  $f(x) = \frac{1}{\sqrt{x}}$  אם ידוע ששטח המשולש שהוא יוצר עם הצירים הוא 4.5 יחידות שטח.

49) מצא את משוואות המשיקים לגרף הפונקציה:  $f(x) = \frac{2}{\sqrt{x-2}}$  העוברים דרך הנקודה  $(2, 3)$ .

**תשובות סופיות:**ב.  $t = 0, -2$ .

**(43)**  $y = 2tx - t^2 + 1$

**(44)**  $y = x + 4$  ,  $y = -3x + 16$

**(45)**  $y = 9x - 10$  ,  $y = x - 10$

**(46)**  $y = 12x$  ,  $y = -15x + 54$

**(47)**  $y = -\frac{1}{2}x + 1\frac{1}{2}$

**(48)**  $y = -\frac{1}{16}x + \frac{3}{4}$

**(49)**  $y = -x + 5$

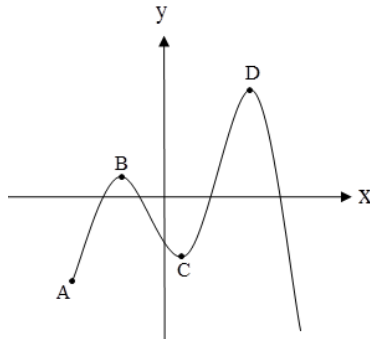
# מכינה למבחן פטור (חדוא 0)

פרק 14 - חשבון דיפרנציאלי - חקירת פונקצית פולינום

תוכן העניינים

248	1. נקודות קיצון של פונקציות
251	2. חקירת פונקציה פולינומית
255	3. פונקציה זוגית ואי-זוגית

## נקודות קיצון של פונקציות:



### סיכום כללי:

#### נקודות קיצון (נקודות מינימום/מקסימום):

- מינימום או מקסימום מקומי (פנימי) – B, C, D.
- מינימום או מקסימום קצה – A.
- מינימום או מקסימום מוחלט – D.

#### נקודות קיצון מקומיות:

- שיפוע המשיק לפונקציה בנקודות קיצון מקומיות הוא אפס.
- בנקודה שבה שיפוע המשיק לפונקציה הוא אפס תיתכן נקודת קיצון מקומית. נקודה כזו נקראת נקודה חשודה כקיצון. ניתן לבדוק אם היא אכן נקודת קיצון.

#### שלבים למציאת נקודות קיצון מקומיות:

- נגזור את הפונקציה.
- נשווה את הנגזרת לאפס ונחלץ את ערכי ה- $x$  של הנקודות החשודות כקיצון.
- נציב את ערכי ה- $x$  מסעיף ב' בפונקציה המקורית לקבלת ערכי ה- $y$ .
- נקבע אם הנקודה היא נקודת קיצון ונסווג את סוג הקיצון על ידי טבלה.

### שאלות:

(1) מצא את נקודות הקיצון של הפונקציה  $f(x) = 10x - x^2$ .

(2) נתונה הפונקציה  $f(x) = x^3 - 12x$ .

- א. מהן נקודות הקיצון של הפונקציה?  
 ב. מהם תחומי העלייה והירידה של הפונקציה?

- (3) נתונה הפונקציה  $f(x) = x^4 - 10x^2 + 9$ .
- א. מהן נקודות הקיצון של הפונקציה?  
 ב. מהם תחומי העלייה והירידה של הפונקציה?
- (4) נתונה הפונקציה  $f(x) = x^4 - 4x^3 + 32$ .
- א. מהן נקודות הקיצון של הפונקציה?  
 ב. מהם תחומי העלייה והירידה של הפונקציה?
- (5) לפונקציה  $f(x) = ax - x^3 - 5$  יש נקודת קיצון בנקודה שבה  $x = -1$ . מצא את ערכו של הפרמטר  $a$ .
- (6) נתונה הפונקציה  $f(x) = ax^3 + x^2$ . ידוע שהנקודה  $x = 1$  נקודת קיצון. מצא את הקבוע  $a$ .
- (7) לפונקציה  $f(x) = Ax^3 + Bx^2 - 1$  יש נקודת קיצון ששיעוריה:  $(2, 3)$ . מצא את ערכי הפרמטרים  $A, B$ .
- (8) לפונקציה  $f(x) = Ax^3 + Bx^2 - 4x$  יש נקודת קיצון ב- $x = -1$  ו- $x = 4$ . מצא את הפרמטרים ואת שיעור ה- $y$  של שתי נקודות הקיצון.
- (9) נתונה הפונקציה  $f(x) = ax^3 + bx^2$ . ידוע שהנקודה  $(1, 2)$  נקודת קיצון. מצא את הפרמטרים  $a, b$ .
- (10) לפונקציה  $f(x) = ax^4 + bx^2 + 35$  יש נקודת קיצון ששיעוריה  $(2, 3)$ . מצא את ערכי הפרמטרים  $a, b$ .

## תשובות סופיות:

(1)  $\max(5, 25)$

(2) א.  $\min(2, -16)$ ,  $\max(-2, 16)$  ב. עולה:  $x > 2$ ,  $x < -2$  יורדת:  $-2 < x < 2$ .

(3) א.  $\max(0, 9)$ ,  $\min(\sqrt{5}, -16)$ ,  $\min(-\sqrt{5}, -16)$

ב. עולה:  $-\sqrt{5} < x < 0$ ,  $x > \sqrt{5}$  יורדת:  $0 < x < \sqrt{5}$ ,  $x < -\sqrt{5}$ .

(4) א.  $\min(3, 5)$  ב. עולה:  $x > 3$  יורדת:  $x < 3$ .

(5)  $a = 3$

(6)  $a = -\frac{2}{3}$

(7)  $A = -1$ ,  $B = 3$

(8)  $A = \frac{1}{3}$ ,  $B = -\frac{3}{2}$ ,  $\left(-1, 2\frac{1}{6}\right)$ ,  $\left(4, -18\frac{2}{3}\right)$

(9)  $b = 6$ ,  $a = -4$

(10)  $a = 2$ ,  $b = -16$

## חקירת פונקציה פולינומית:

### שאלות:

**(11)** נתונה הפונקציה  $f(x) = 10x - x^2$ .

חקור את הפונקציה על פי הסעיפים הבאים:

- א. מהו תחום ההגדרה של הפונקציה?
- ב. מצא את נקודות הקיצון של הפונקציה.
- ג. מצא את תחומי העלייה והירידה של הפונקציה.
- ד. מצא את נקודות החיתוך של הפונקציה עם הצירים.
- ה. שרטט סקיצה של גרף הפונקציה.

**(12)** נתונה הפונקציה  $f(x) = x^3 - 12x$ .

חקור את הפונקציה על פי הסעיפים הבאים:

- א. מציאת תחום ההגדרה.
- ב. מציאת נקודות קיצון של הפונקציה.
- ג. כתיבת תחומי העלייה והירידה של הפונקציה.
- ד. מציאת נקודות החיתוך של גרף הפונקציה עם הצירים.
- ה. שרטוט סקיצה של גרף הפונקציה.

**(13)** נתונה הפונקציה  $f(x) = x^4 - 10x^2 + 9$ .

חקור את הפונקציה על פי הסעיפים הבאים:

- א. מציאת תחום ההגדרה.
- ב. מציאת נקודות קיצון של הפונקציה.
- ג. כתיבת תחומי העלייה והירידה של הפונקציה.
- ד. מציאת נקודות החיתוך של גרף הפונקציה עם הצירים.
- ה. שרטוט סקיצה של גרף הפונקציה.

**(14)** נתונה הפונקציה  $f(x) = x^4 - 4x^3 + 32$  חקור את הפונקציה על פי הסעיפים הבאים:

- א. מציאת תחום ההגדרה.
- ב. מציאת נקודות קיצון של הפונקציה.
- ג. כתיבת תחומי העלייה והירידה של הפונקציה.
- ד. מציאת נקודות החיתוך של גרף הפונקציה עם הצירים.
- ה. שרטוט סקיצה של גרף הפונקציה.

15 נתונה הפונקציה  $f(x) = x^3$  חקור את הפונקציה על פי הסעיפים הבאים:

- מציאת תחום ההגדרה.
- מציאת נקודות קיצון של הפונקציה.
- כתיבת תחומי העלייה והירידה של הפונקציה.
- מציאת נקודות החיתוך של גרף הפונקציה עם הצירים.
- שרטוט סקיצה של גרף הפונקציה.

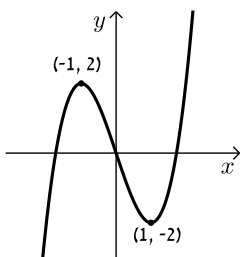
16 נתונה הפונקציה:  $f(x) = 2x^3 - 3ax^2 + 54x - 50$ .

- לאילו ערכים של הפרמטר  $a$  עולה הפונקציה בכל תחום הגדרתה?
- הצב בפונקציה  $a = 6$  וחקור את הפונקציה על פי הסעיפים הבאים: תחום הגדרה, נקודות קיצון, תחומי עלייה וירידה, נקודת חיתוך עם ציר ה- $y$ , סרטוט.

17 נתונה הפונקציה:  $y = -3x^3 + 6x^2 - 4x + d$  (פרמטר  $d$ ).

ידוע כי הפונקציה חותכת את ציר ה- $x$  בנקודה שבה:  $x = 2$ .

- מצא את  $d$ .
- האם יש לפונקציה נקודות קיצון?
- כתוב את תחומי העלייה וירידה של הפונקציה.
- מצא את נקודת החיתוך של הפונקציה עם ציר ה- $y$ .
- שרטט סקיצה של גרף הפונקציה.

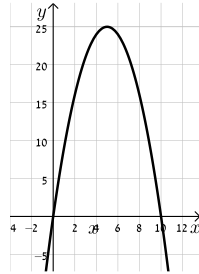


18 לפניך גרף הפונקציה  $f(x) = x^3 - 3x$ :

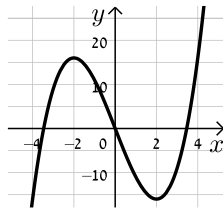
- מהו מספר הפתרונות של המשוואה  $f(x) = 5$ ?
- מהו מספר הפתרונות של המשוואה  $f(x) = 2$ ?
- מהו מספר הפתרונות של המשוואה  $f(x) = 0.5$ ?
- עבור איזה ערך של  $k$  למשוואה  $f(x) = k$  יש בדיוק פתרון אחד?
- עבור איזה ערך של  $k$  למשוואה  $f(x) = k$  יש בדיוק שני פתרונות?
- עבור איזה ערך של  $k$  למשוואה  $f(x) = k$  יש בדיוק שלושה פתרונות?
- האם קיים ערך של  $k$  עבורו למשוואה  $f(x) = k$  אין פתרון?

**תשובות סופיות:**

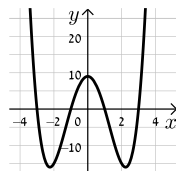
- (11)** א. כל  $x$       ב.  $\max(5,25)$       ג. עלייה:  $x < 5$ , ירידה:  $x > 5$       ד.  $(0,0)$ ,  $(10,0)$ .  
ה. להלן גרף:



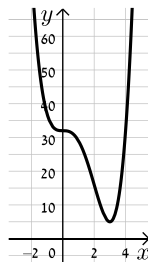
- (12)** א. כל  $x$       ב.  $\min(2,-16)$ ,  $\max(-2,16)$       ג. עלייה:  $x > 2$ ,  $x < -2$ , ירידה:  $-2 < x < 2$       ד.  $(0,0)$ ,  $(\sqrt{12},0)$ ,  $(-\sqrt{12},0)$ .  
ה. להלן גרף:



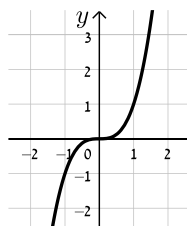
- (13)** א. כל  $x$       ב.  $\max(0,9)$ ,  $\min(\sqrt{5},-16)$ ,  $\min(-\sqrt{5},-16)$       ג. עלייה:  $-\sqrt{5} < x < 0$ ,  $x > \sqrt{5}$ , ירידה:  $x < -\sqrt{5}$ ,  $0 < x < \sqrt{5}$       ד.  $(0,9)$ ,  $(\pm 1,0)$ ,  $(\pm 3,0)$ .  
ה. להלן גרף:



- (14)** א. כל  $x$       ב.  $\min(3,5)$       ג. תחומי עלייה:  $x > 3$ , תחומי ירידה:  $x < 3$       ד.  $(0,32)$ .  
ה. להלן גרף:

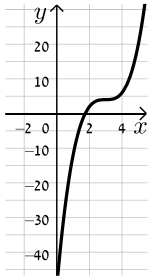


- (15)** א. כל  $x$       ב. אין.      ג. עולה לכל  $x$       ד.  $(0,0)$ .  
ה. להלן גרף:



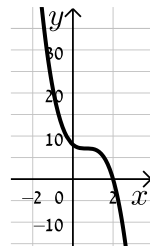
16) א.  $-6 < a < 6$  ב. תחום הגדרה: כל  $x$ , נקודות קיצון: אין, תחומי עלייה: כל  $x$ ,

תחומי ירידה: אין, נקודת חיתוך עם הצירים:  $(0, -50)$ , להלן גרף:



17) א.  $d = 8$  ב. לא ג. יורדת בתחום  $x \neq \frac{2}{3}$

ד.  $(0, 8)$  ה. להלן גרף:



18) א. 1 ב. 2 ג. 3 ד.  $k > 2, k < -2$

ה.  $k = \pm 2$  ו.  $-2 < k < 2$  ז. לא

## פונקציה זוגית ואי-זוגית:

### סיכום כללי:

#### הגדרות:

- פונקציה  $f(x)$  תיקרא זוגית אם לכל  $x$  בתחום הגדרתה מתקיים:  $f(x) = f(-x)$ .
- פונקציה  $f(x)$  תיקרא אי-זוגית אם לכל  $x$  בתחום הגדרתה מתקיים:  $f(-x) = -f(x)$ .

#### שאלות:

(1) קבע אלו מהפונקציות הבאות הן זוגיות/אי-זוגיות לא זו ולא זו:

א.  $f(x) = 3x - 5$

ב.  $f(x) = 3x^2$

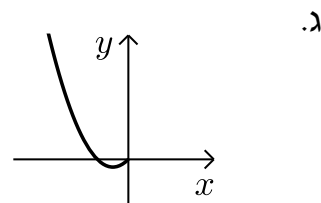
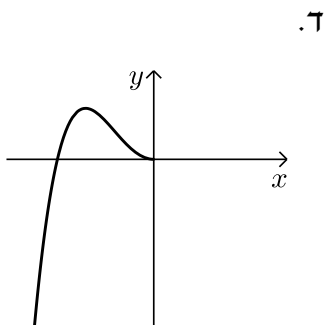
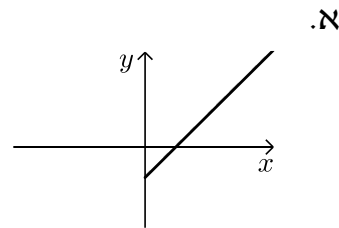
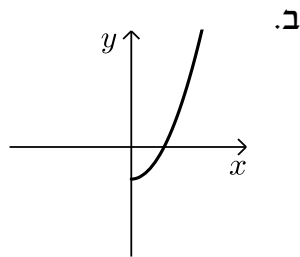
ג.  $f(x) = 2x^3$

ד.  $f(x) = x^3 - 2x^2$

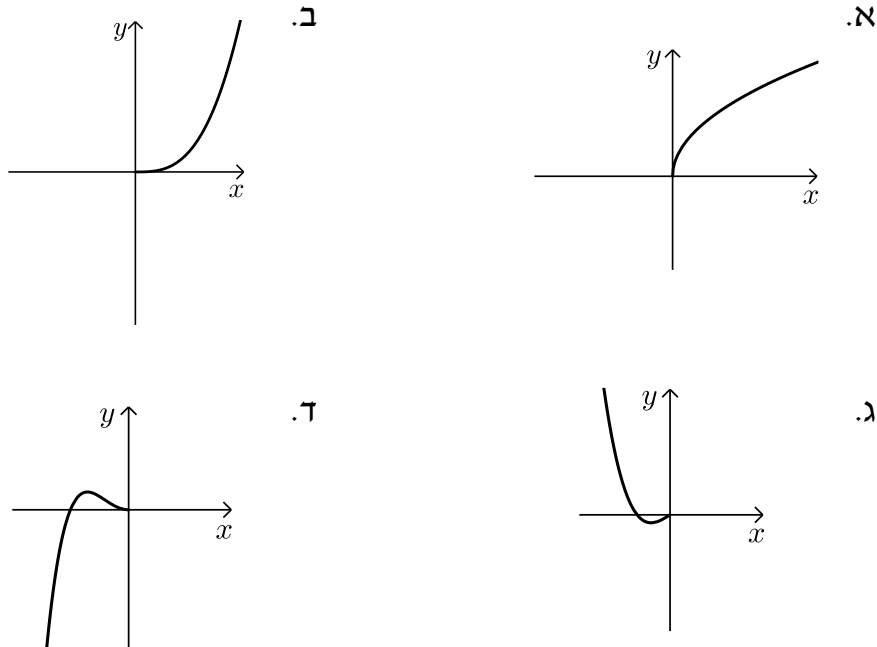
ה.  $f(x) = 4x^4 - 3x^2 + 1$

ו.  $f(x) = 4x^5 - 3x^3 - 1$

(2) הפונקציות המסורטטות להלן מוגדרות לכל  $x$ . השלם את ציור הגרף של הפונקציה כך שתקבל פונקציה זוגית:



3) הפונקציות המסורטטות להלן מוגדרות לכל  $x$ . השלם את ציור הגרף של הפונקציה כך שתקבל פונקציה אי-זוגית:



4) נתונה הפונקציה הבאה:  $f(x) = x^4 - 4x^2$  בתחום:  $[0:3]$ .

א. חקור את הפונקציה בתחום הנ"ל לפי הסעיפים הבאים:

- i. תחום הגדרה.
- ii. מציאת נקודות חיתוך עם הצירים.
- iii. מציאת נקודות קיצון וסיווגן.
- iv. כתיבת תחומי עלייה וירידה.
- v. סרטוט סקיצה של גרף הפונקציה.

ב. הוכח כי הפונקציה  $f(x)$  היא פונקציה זוגית.

ג. התבסס על ממצאיך מהסעיפים הקודמים וסרטט את הפונקציה בתחום:  $[-3:3]$  (הוסף את סרטוט גרף הפונקציה בתחום  $[-3:0]$  לגרף שסרטטת בסעיף הקודם).

5) נתונה הפונקציה הבאה:  $f(x) = x^6 - 3x^2 + 3$ .

- א. חקור את הפונקציה בתחום:  $[0:4]$  לפי הסעיפים הבאים:  
תחום הגדרה, מציאת חיתוך עם ציר ה- $y$ , מציאת נקודות קיצון וסיווגן,  
כתיבת תחומי עלייה וירידה, סרטוט סקיצה בתחום הנ"ל.
- ב. האם הפונקציה היא זוגית? אי-זוגית? לא זו ולא זו?  
נמק באמצעות חישוב מתאים.
- ג. הסתמך על ממציאך מהסעיפים הקודמים והוסף לסקיצה ששרטטת  
בסעיף א', את עקום הפונקציה בתחום  $[-4:0]$ .
- ד. הוכח כי הפונקציה חיובית לכל  $x$  בתחום הגדרתה.

6) לפניך הפונקציה:  $f(x) = -2x^6 + 3x^4 + a$ , פרמטר  $a$ .

ידוע כי לפונקציה ערך מירבי של 1.

- א. מצא את  $a$  וכתוב את הפונקציה  $f(x)$ .
- ב. חקור את הפונקציה בתחום:  $[-2:0]$  לפי הסעיפים הבאים:  
כתיבת תחום הגדרה, מציאת נקודות חיתוך עם הצירים,  
מציאת נקודות קיצון וסיווגן, כתיבת תחומי עלייה וירידה, סרטוט סקיצה.
- ג. האם הפונקציה היא זוגית? אי-זוגית? לא זה ולא זה?  
נמק באמצעות חישוב מתאים.
- ד. הסתמך על ממציאך מהסעיפים הקודמים ושרטט את גרף הפונקציה  
בתחום:  $[-2:2]$ .

7) נתונה הפונקציה הבאה:  $f(x) = 3x^3 - 9x$ .

- א. חקור את הפונקציה בתחום:  $[0:5]$  לפי הסעיפים הבאים:  
כתיבת תחום הגדרה, מציאת נקודות חיתוך עם הצירים,  
מציאת נקודות קיצון וסיווגן, כתיבת תחומי עלייה וירידה, סרטוט סקיצה.
- ב. הוכח כי הפונקציה היא אי-זוגית.
- ג. התבסס על ממציאך מהסעיפים הקודמים ושרטט את הפונקציה  
בתחום:  $[-5:5]$  (הוסף את סרטוט גרף הפונקציה בתחום  $[-5:0]$   
לגרף ששרטטת בסעיף הקודם).

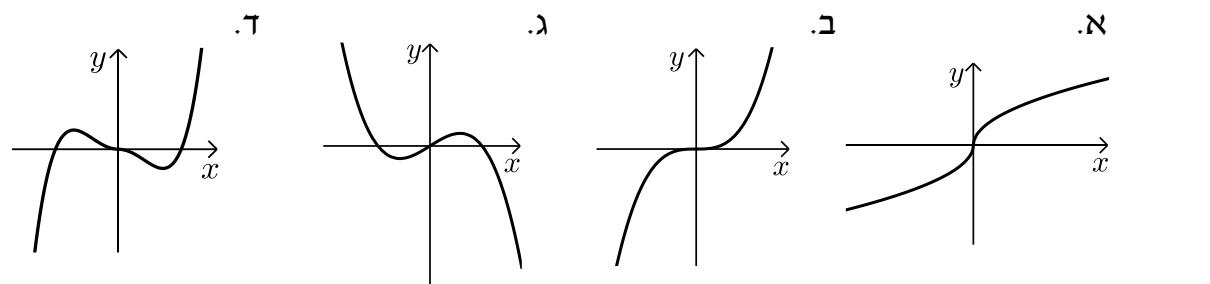
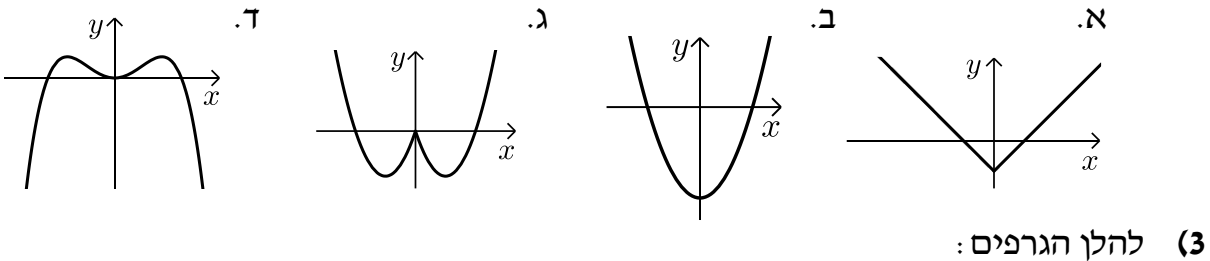
- 8) לפניך הפונקציה הבאה:  $f(x) = 5x^3 - 3x^5 + b$ , פרמטר  $b$ . ידוע כי הישר  $y = 2x$  עובר דרך כל הנקודות על גרף הפונקציה שמקיימות:  $f'(x) = 0$ .
- מצא את  $b$  וכתוב את הפונקציה  $f(x)$ .
  - חקור את הפונקציה בתחום:  $[0:2]$  לפי הסעיפים הבאים:
    - תחום הגדרה.
    - מציאת נקודות חיתוך עם הצירים.
    - מציאת נקודות קיצון וסיווגן.
    - כתיבת תחומי עלייה וירידה.
    - סרטוט סקיצה של גרף הפונקציה.
  - בדוק האם הפונקציה היא זוגית/אי-זוגית או לא זו ולא זו. נמק את קביעתך באמצעות חישוב מתאים.
  - הסתמך על ממציאך מהסעיפים הקודמים והוסף לסקיצה של גרף הפונקציה את הגרף בתחום  $[-2:0]$ .

9) נתונה הפונקציה:  $f(x) = \frac{x^7 - x}{3}$

- חקור את הפונקציה בתחום:  $[-4:0]$  לפי הסעיפים הבאים:
  - תחום הגדרה.
  - מציאת נקודות חיתוך עם הצירים.
  - מציאת נקודות קיצון וסיווגן (בתשובתך השאר עד 2 ספרות לאחר הנקודה העשרונית).
  - כתיבת תחומי עלייה וירידה.
  - סרטוט סקיצה של גרף הפונקציה.
- האם הפונקציה היא זוגית? אי-זוגית? או לא זו ולא זו? נמק ע"י חישוב מתאים.
- הסתמך על ממציאך מהסעיפים הקודמים והוסף לסקיצה שעשית את גרף הפונקציה בתחום  $[0:4]$ .

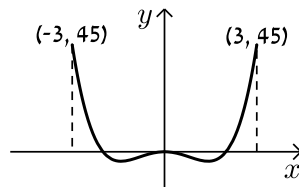
**תשובות סופיות:**

- (1) זוגית: ב', ה'.  
 (2) להלן הגרפים: אי-זוגית: ג', לא זו ולא זו: א', ד', ו'.

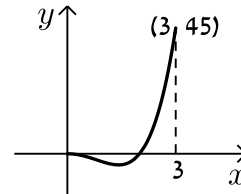


- (4) א. i.  $0 \leq x \leq 3$  ii.  $(0,0), (2,0)$  iii.  $\max(3,45)$  קצה,  $\min(\sqrt{2}, -4)$   
 iv. עולה:  $\sqrt{2} < x < 3$ , יורדת:  $0 < x < \sqrt{2}$ . ב. סעיף הוכחה.

**סרטוט עבור סעיף ג:**

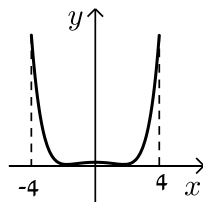


**סרטוט עבור חלק v:**

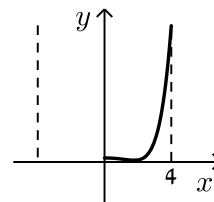


- (5) א. תחום הגדרה:  $0 \leq x \leq 4$ , חיתוך עם ציר ה- $y$ :  $(0,3)$ , נקודות קיצון:  $\max(4,4051)$  קצה,  $\min(1,1)$ ,  $\max(0,3)$  קצה, עולה:  $1 < x < 4$ , יורדת:  $0 < x < 1$ . ב. זוגית. ד. הוכחה עפ"י הסרטוט.

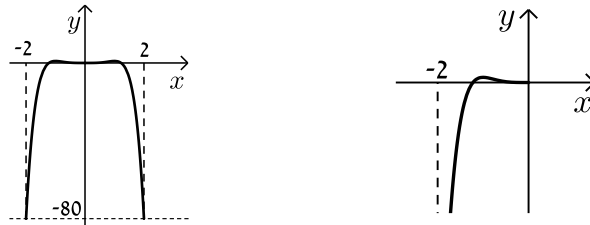
**סרטוט עבור סעיף ג:**



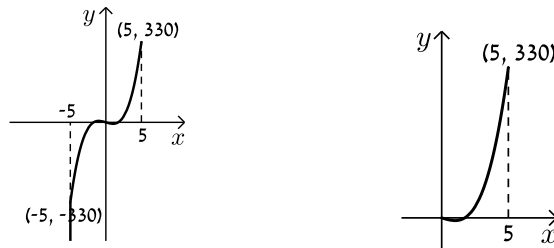
**סרטוט עבור סעיף א:**



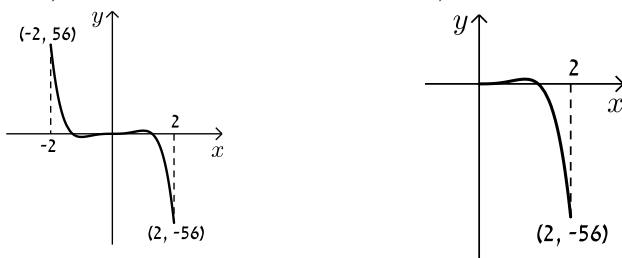
6. א.  $a=0$       ב. תחום הגדרה:  $-2 \leq x \leq 0$ , חיתוך עם הצירים:
- $(0,0)$ ,  $(-1.225,0)$ , נקודות קיצון:  $\min(-2,-80)$  קצה,  $\max(-1,1)$  קצה,  $\min(0,0)$  קצה,  
 עולה:  $-2 < x < -1$ , יורדת:  $-1 < x < 0$ .      ג. זוגית.  
**סרטוט עבור סעיף א:**      **סרטוט עבור סעיף ד:**



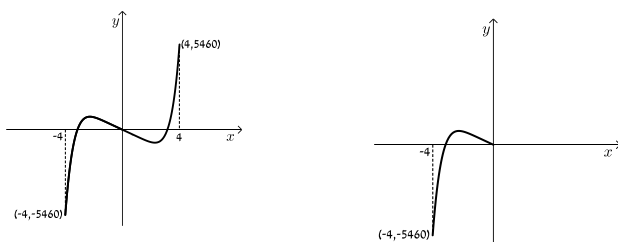
7. א. תחום הגדרה:  $0 \leq x \leq 5$ , חיתוך עם הצירים:  $(0,0)$ ,  $(\sqrt{3},0)$
- נקודות קיצון:  $\max(5,330)$  קצה,  $\min(1,-6)$  קצה,  $\max(0,0)$  קצה,  
 עולה:  $1 < x < 5$ , יורדת:  $0 < x < 1$ .      ב. אי-זוגית.  
**סרטוט עבור סעיף א:**      **סרטוט עבור סעיף ג:**



8. א.  $b=0$       ב. i  $0 \leq x \leq 2$       ii  $(0,0)$ ,  $(1.29,0)$       iii  $\min(2,-56)$  קצה,  
 iv. עולה:  $0 < x < 1$ , יורדת:  $1 < x < 2$ .  
**סרטוט עבור סעיף ד:**      **סרטוט עבור חלק v:**      ג. אי-זוגית.



9. א. i  $-4 \leq x \leq 0$       ii  $(-1,0)$ ,  $(0,0)$       iii  $\min(0,0)$  קצה,  $\max(-0.723,0.207)$  קצה,  
 iv. עולה:  $-4 < x < -0.723$ .  
**סרטוט עבור סעיף ד:**      **סרטוט עבור חלק v:**      ג. אי-זוגית.      יורדת:  $-0.723 < x < 0$



# מכינה למבחן פטור (חדוא 0)

פרק 15 - חשבון דיפרנציאלי - חקירת פונקצית מנה ושורש

תוכן העניינים

261	1. מציאת תחום הגדרה
263	2. מציאת נקודות קיצון ותחומי עלייה וירידה
264	3. מציאת אסימפטוטות המקבילות לצירים
269	4. חקירת פונקצית מנה
278	5. חקירת פונקצית שורש
286	6. תחומי קעירות ונקודות פיתול
292	7. חקירת פונקציה עם פרמטר
295	8. פונקציות ללא תבנית מפורשת

## מציאת תחום הגדרה:

### סיכום כללי:

- כל פולינום מוגדר לכל  $x$ .
- בפונקציה עם מכנה, אסור שיתקבל אפס במכנה.
- בפונקציה עם שורש זוגי, אסור שיתקבל מספר שלילי בתוך השורש.

### שאלות:

(1) מצא את תחום ההגדרה של הפונקציות הבאות:

א. $f(x) = x^2 + \frac{1}{2}x$	ב. $f(x) = 4x^3 - x^2 + \frac{x}{2} + 1$
ג. $f(x) = x^3 - x^2 - 4x + 1$	ד. $f(x) = \frac{2x}{x-3}$
ה. $f(x) = \frac{1}{x^2 - 4}$	ו. $f(x) = \frac{5x^3 + 4x}{x^2 - 1}$
ז. $f(x) = \frac{x^2}{x^2 - x - 2}$	ח. $f(x) = \frac{x^2 + 1}{x^2 - 2x - 8}$
ט. $f(x) = \frac{6}{x^2 + 1}$	י. $f(x) = \frac{4x + 1}{x^2 + 1}$
יא. $f(x) = \frac{1}{x^3 - x}$	יב. $f(x) = \frac{x^2}{x^3 - 4x}$

(2) מצא את תחום ההגדרה של הפונקציות הבאות:

א. $f(x) = \sqrt{x}$	ב. $f(x) = 2\sqrt{x-3}$
ג. $f(x) = \sqrt{x-4}$	ד. $f(x) = 3x\sqrt{1-2x}$
ה. $f(x) = \sqrt{x^2 + 3x - 10}$	ו. $f(x) = \sqrt{x^2 + x - 2}$
ז. $f(x) = \frac{5x}{\sqrt{x+4}}$	ח. $f(x) = \frac{\sqrt{x^2 + 5x + 6}}{x-1}$
ט. $f(x) = \sqrt{\frac{2x^2 + x - 3}{x^2 + 5x + 9}}$	י. $f(x) = \frac{x-2}{\sqrt{x^3 - 9x}}$
יא. $f(x) = \frac{1}{x + \sqrt{x+6}}$	יב. $f(x) = \frac{x+1}{x - \sqrt{2-x}}$
יג. $f(x) = \frac{1}{\sqrt{1- x }}$	יד. $f(x) = \sqrt{\sqrt{x+2} - 3}$

## תשובות סופיות:

- (1) א. כל  $x$     ב. כל  $x$     ג. כל  $x$     ד.  $x \neq 3$     ה.  $x \neq \pm 2$     ו.  $x \neq \pm 1$   
 ז.  $x \neq -1, 2$     ח.  $x \neq 4, -2$     ט. כל  $x$     י. כל  $x$     יא.  $x \neq \pm 1, 0$     יב.  $x \neq \pm 2, 0$
- (2) א.  $x \geq 0$     ב.  $x \geq 3$     ג.  $x \geq 4$     ד.  $x \leq \frac{1}{2}$     ה.  $x \leq -5, x \geq 2$   
 ו.  $x \leq -2, x \geq 1$     ז.  $x > -4$     ח.  $x \leq -3, -2 \leq x < 1, x > 1$     ט.  $x \leq -1.5, x \geq 1$   
 י.  $-3 < x < 0, x > 3$     יא.  $-6 \leq x < -2, x > -2$     יב.  $x < 1, 1 < x \leq 2$   
 יג.  $-1 < x < 1$     יד.  $x \geq 7$

## מציאת נקודות קיצון ותחומי עלייה וירידה:

שאלות:

(3) נתונה הפונקציה:  $f(x) = \frac{6x}{x^2 - 10x + 9}$ .

- א. מהן נקודות הקיצון של הפונקציה?  
 ב. מהם תחומי העלייה והירידה של הפונקציה?

תשובות סופיות:

(3) א.  $\min\left(-3, -\frac{3}{8}\right), \max\left(3, -1\frac{1}{2}\right)$ .

ב. עולה:  $-3 < x < 3$ , יורדת:  $x < -3, 3 < x \neq 9$ ,  $x \neq 1$ .

## מציאת אסימפטוטות המקבילות לצירים:

### סיכום כללי:

#### אסימפטוטה אנכית:

הגדרה: הישר:  $x = k$  הוא אסימפטוטה אנכית של פונקציה מהצורה:  $y = \frac{f(x)}{g(x)}$

אם הוא מקיים:  $g(k) = 0$  וגם:  $f(k) \neq 0$ . בצורה מתמטית: אם:  $\lim_{x \rightarrow k^+} \frac{f(x)}{g(x)} = \pm\infty$

או:  $\lim_{x \rightarrow k^-} \frac{f(x)}{g(x)} = \pm\infty$  או שניהם אז הישר:  $x = k$  הוא אסימפטוטה אנכית לפונקציה  $y = \frac{f(x)}{g(x)}$ .

### הסבר כללי:

בעבור ערכי  $x$  שמאפסים את המכנה, אבל לא את המונה יש אסימפטוטה אנכית. כאשר ערך  $x$  מאפס את המכנה וגם את המונה יש לפרק את המונה והמכנה (על ידי נוסחאות כפל מקוצר או טרינום למשל) ולצמצם. אם אחרי הצמצום אותו ערך של  $x$  עדיין מאפס את המכנה תתקבל אסימפטוטה אנכית, אך אם ערך  $x$  זה לא מאפס את המכנה אחרי שצומצם אין אסימפטוטה אנכית אלא נקודת אי הגדרה.

#### אסימפטוטה אופקית:

הגדרה: ישר מהצורה:  $y = n$  הוא אסימפטוטה אופקית לפונקציה מהצורה:  $y = \frac{f(x)}{g(x)}$

אם מתקיים:  $\lim_{x \rightarrow \infty^+} \frac{f(x)}{g(x)} = n$  או:  $\lim_{x \rightarrow \infty^-} \frac{f(x)}{g(x)} = n$  או שניהם.

אופן החישוב הכללי:

נתונה הפונקציה  $f(x) = \frac{ax^m + \dots}{bx^n + \dots}$  (יש בפונקציה קו שבר אחד!)

- אם  $m > n$ , לפונקציה אין אסימפטוטה אופקית.
- אם  $m = n$ , לפונקציה יש אסימפטוטה אופקית שמשוואתה  $y = \frac{a}{b}$ .
- אם  $m < n$ , לפונקציה יש אסימפטוטה אופקית שמשוואתה  $y = 0$ .

### חוקי גבולות לאינסוף:

במקרים רבים נרצה לדעת האם פונקציה מסוימת מתכנסת לערך כלשהו כאשר  $x$  שואף לערכים ההולכים וגדלים (לאינסוף, או למינוס אינסוף). עבור ערכי  $x$  שהולכים וגדלים (או קטנים) נרשום:  $x = \infty$  או  $x = -\infty$  בהתאמה.

ישנם 4 מצבים בהם ערך הפונקציה בשאיפת  $x$  לאחד הקצוות ניתן לחישוב ישיר:

- הגבול:  $\lim_{x \rightarrow \infty} \frac{1}{x} = \frac{1}{\infty} = 0$

- הגבול:  $\lim_{x \rightarrow 0} \frac{1}{x}$  ניתן לפיצול לשני מקרים:

- אם:  $x \rightarrow 0^+$  (מתקרב ל-0 מהכיוון החיובי) אז:  $\lim_{x \rightarrow 0^+} \frac{1}{x} = \frac{1}{0^+} = +\infty$

- אם:  $x \rightarrow 0^-$  (מתקרב ל-0 מהכיוון השלילי) אז:  $\lim_{x \rightarrow 0^-} \frac{1}{x} = \frac{1}{0^-} = -\infty$

- הגבול מהצורה  $\infty \cdot \infty$  (מכפלת שני ביטויים של  $x$  אשר כל אחד מהם שואף לאינסוף בפני עצמו) מקיים:  $\infty \cdot \infty = \infty$

- הגבול מהצורה  $\infty + \infty$  (סכום שני ביטויים של  $x$  אשר כל אחד מהם שואף לאינסוף בפני עצמו) מקיים:  $\infty + \infty = \infty$

ישנם 3 מקרים בהם לא ניתן לדעת מהו ערך הפונקציה בלקיחת הגבול בצורה ישירה והם:

- הגבול מהצורה:  $\frac{\infty}{\infty}$  (מנת שני ביטויים שהולכים וגדלים עם שאיפת  $x$ ).

- הגבול מהצורה:  $\frac{0}{0}$  (מנת שני ביטויים שהולכים וקטנים עם שאיפת  $x$ ).

- הגבול מהצורה:  $\infty - \infty$  (הפרש של שני ביטויים שהולכים וגדלים עם שאיפת  $x$ ). במקרים אלו נעזר בפישוטים שהוצגו לעיל על מנת למצוא את ערך הגבול עצמו.

## שאלות:

(4) מצא את האסימפטוטות המקבילות לצירים של הפונקציה:  $f(x) = \frac{1}{x-2} + 3$

(5) מצא את האסימפטוטות המקבילות לצירים של הפונקציה:  $f(x) = \frac{5x^2+1}{x^2-9}$

(6) מצא את האסימפטוטות המקבילות לצירים של הפונקציה:  $f(x) = \frac{2x^2-5x+2}{1+3x^2}$

(7) מצא את האסימפטוטות המקבילות לצירים של הפונקציה:  $f(x) = \frac{3x}{x^2-2x-15}$

(8) מצא את האסימפטוטות המקבילות לצירים של הפונקציה:  $f(x) = \frac{6x^3-5x+1}{1+2x^2}$

(9) מצא את האסימפטוטות המקבילות לצירים של הפונקציה:  $f(x) = \frac{ax+b}{x-b}$

(10) מצא את האסימפטוטות המקבילות לצירים של הפונקציה:  $f(x) = \frac{x^2-4}{x^2-3x+2}$   
 ואת נקודת אי הרציפות שלה.

(11) מצא את האסימפטוטות המקבילות לצירים של הפונקציה:  $f(x) = \frac{x^2}{2x^2-4x}$   
 ואת נקודת אי הרציפות שלה.

(12) מצא את האסימפטוטות המקבילות לצירים של הפונקציה:  $f(x) = \frac{\sqrt{x-1}}{x^2-4}$

(13) מצא את האסימפטוטות המקבילות לצירים של הפונקציה:  $f(x) = \frac{x}{\sqrt{4-x}}$

14) מצא את האסימפטוטות המקבילות לצירים של הפונקציה:  $f(x) = \frac{\sqrt{x}}{1-\sqrt{x}}$

15) מצא את האסימפטוטות המקבילות לצירים של הפונקציה:  $f(x) = \frac{2x}{x-\sqrt{x}}$

16) מצא את האסימפטוטות המקבילות לצירים של הפונקציה:  $f(x) = \frac{3x}{\sqrt{x^2+5}}$

17) מצא את האסימפטוטות המקבילות לצירים של הפונקציה:  $f(x) = \frac{5x}{\sqrt{x^2-16}}$

18) נתונה הפונקציה:  $f(x) = \frac{4x^2+1}{ax^2-x+b}$

האסימפטוטה האופקית של הפונקציה ואחת האסימפטוטות האנכיות של הפונקציה

נפגשות בנקודה  $(-1, 2)$ .

מצא את ערכי הפרמטרים  $a$  ו- $b$ .

19) נתונה הפונקציה:  $f(x) = \frac{ax+8}{x+b\sqrt{x}}$

הפונקציה חותכת את האסימפטוטה האופקית שלה בנקודה  $(16, 2)$ .

מצא את ערכי הפרמטרים  $a$  ו- $b$ .

**תשובות סופיות:**

(4)  $x = 2, y = 3$

(5)  $x = \pm 3, y = 5$

(6)  $y = \frac{2}{3}$

(7)  $x = -3, x = 5, y = 0$

(8) אין.

(9)  $x = b, y = a$

(10) נקודת אי-הגדרה:  $(2, 4)$ ,  $x = 1, y = 1$

(11) נקודת אי-הגדרה:  $(0, 0)$ ,  $x = 2, y = \frac{1}{2}$

(12)  $x = 2, y = 0$

(13)  $x = 4$

(14)  $x = 1, y = -1$

(15)  $x = 1, y = 2$

(16)  $y = \lim_{x \rightarrow \infty} (f(x)) = 3, y = \lim_{x \rightarrow -\infty} (f(x)) = -3$

(17)  $x = 4, x = -4, y = 5, y = -5$

(18)  $b = -3, a = 2$

(19)  $b = 1, a = 2$

## חקירת פונקציה מנה:

### שאלות:

(20) נתונה הפונקציה:  $f(x) = \frac{6x^2 - 10x + 6}{3x^2 - 10x + 3}$ . חקור את הפונקציה לפי הסעיפים הבאים:

- א. מציאת תחום ההגדרה.
- ב. מציאת נקודות הקיצון של הפונקציה.
- ג. כתיבת תחומי העלייה והירידה של הפונקציה.
- ד. מציאת נקודות החיתוך של גרף הפונקציה עם הצירים.
- ה. מציאת אסימפטוטות המקבילות לצירים.
- ו. שרטוט סקיצה של גרף הפונקציה.

(21) נתונה הפונקציה:  $f(x) = x + \frac{1}{x}$ . חקור את הפונקציה לפי הסעיפים הבאים:

- א. מציאת תחום ההגדרה.
- ב. מציאת נקודות הקיצון של הפונקציה.
- ג. כתיבת תחומי העלייה והירידה של הפונקציה.
- ד. מציאת נקודות החיתוך של גרף הפונקציה עם הצירים.
- ה. שרטוט סקיצה של גרף הפונקציה.

(22) נתונה הפונקציה:  $f(x) = \frac{2x+1}{x-3}$ . חקור את הפונקציה לפי הסעיפים הבאים:

- א. מציאת תחום ההגדרה.
- ב. מציאת נקודות הקיצון של הפונקציה.
- ג. כתיבת תחומי העלייה והירידה של הפונקציה.
- ד. מציאת נקודות החיתוך של גרף הפונקציה עם הצירים.
- ה. מציאת אסימפטוטות המקבילות לצירים.
- ו. שרטוט סקיצה של גרף הפונקציה.

**(23)** נתונה הפונקציה:  $f(x) = \frac{6x}{x^2 - 5x + 4}$ . חקור את הפונקציה לפי הסעיפים הבאים:

- א. מציאת תחום ההגדרה.
- ב. מציאת נקודות הקיצון של הפונקציה.
- ג. כתיבת תחומי העלייה והירידה של הפונקציה.
- ד. מציאת נקודות החיתוך של גרף הפונקציה עם הצירים.
- ה. שרטוט סקיצה של גרף הפונקציה.

**(24)** נתונה הפונקציה:  $f(x) = \frac{x^2 - 3x}{x^2 + 3}$ . חקור את הפונקציה לפי הסעיפים הבאים:

- א. מציאת תחום ההגדרה.
- ב. מציאת נקודות הקיצון של הפונקציה.
- ג. כתיבת תחומי העלייה והירידה של הפונקציה.
- ד. מציאת נקודות החיתוך של גרף הפונקציה עם הצירים.
- ה. שרטוט סקיצה של גרף הפונקציה.

**(25)** נתונה הפונקציה הבאה:  $y = \frac{2x^2 - 5x + 2}{4x}$ . חקור לפי הסעיפים הבאים:

- א. תחום הגדרה.
- ב. נקודות קיצון.
- ג. קביעת סוג הקיצון ותחומי עלייה וירידה.
- ד. חיתוך עם הצירים.
- ה. מציאת אסימפטוטה אנכית.
- ו. שרטוט סקיצה.

**(26)** נתונה הפונקציה:  $f(x) = \frac{x^2 - 5x + 6}{x - 3}$ . חקור את הפונקציה לפי הסעיפים הבאים:

- א. מציאת תחום הגדרה.
- ב. מציאת נקודות קיצון של הפונקציה.
- ג. כתיבת תחומי העלייה והירידה של הפונקציה.
- ד. מציאת נקודות החיתוך של גרף הפונקציה עם הצירים.
- ה. מציאת אסימפטוטות המקבילות לצירים.
- ו. שרטוט סקיצה של גרף הפונקציה.

(27) נתונה הפונקציה:  $f(x) = \frac{x^2 - 3x + 2}{x^2 - 1}$ . חקור את הפונקציה לפי הסעיפים הבאים:

- א. מציאת תחום הגדרה.
- ב. מציאת נקודות קיצון של הפונקציה.
- ג. כתיבת תחומי העלייה והירידה של הפונקציה.
- ד. מציאת נקודות החיתוך של גרף הפונקציה עם הצירים.
- ה. מציאת אסימפטוטות המקבילות לצירים.
- ו. סרטוט סקיצה של גרף הפונקציה.

(28) לגרף הפונקציה:  $f(x) = \frac{ax + 4}{x^2}$  יש נקודת קיצון שבה  $x = -8$ .

- א. מצא את  $a$  וכתוב את הפונקציה.
- ב. כתוב את תחומי העלייה והירידה של הפונקציה.
- ג. מצא את נקודות החיתוך של הפונקציה עם הצירים.
- ד. מצא את האסימפטוטות המקבילות לצירים.
- ה. סרטוט סקיצה של גרף הפונקציה.

(29) נתונה הפונקציה:  $f(x) = \frac{3x^2}{2x^2 - 8}$ .

- א. מהו תחום הגדרה של הפונקציה?
- ב. מצא את נקודות הקיצון של הפונקציה.
- ג. קבע את סוג הקיצון ותחומי העלייה והירידה של הפונקציה.
- ד. מצא את נקודות החיתוך עם הצירים של הפונקציה.
- ה. מצא את האסימפטוטות המקבילות לצירים של הפונקציה.
- ו. סרטוט סקיצה של גרף הפונקציה.

(30) נתונה הפונקציה:  $y = \frac{a^2x - 4}{2x^2 - 1}$ ,  $(a$  קבוע).

- ידוע כי שיפוע המשיק לגרף הפונקציה בנקודה שבה:  $x = 1$  הוא:  $m = 4$ .
- א. מצא את כל הערכים האפשריים עבור  $a$ .
  - ב. מצא את נקודות החיתוך של גרף הפונקציה עם הצירים.
  - ג. מצא את נקודת החיתוך בין המשיק הנתון ומשיק העובר דרך נקודת החיתוך של גרף הפונקציה עם ציר ה- $y$ .

**31** נתונה הפונקציה הבאה:  $f(x) = 1.5x - \frac{5x+1}{x+5}$ . חקור לפי הסעיפים הבאים:

- א. תחום הגדרה.
- ב. נקודות קיצון וסוגן.
- ג. תחומי עלייה וירידה.
- ד. חיתוך עם הצירים.
- ה. מציאת אסימפטוטות המקבילות לצירים.
- ו. סרטוט סקיצה.

**32** נתונה הפונקציה:  $f(x) = \frac{x-a}{x-1}$ ,  $(a \neq 1)$ .

- א. מצא את תחום ההגדרה של הפונקציה.
- ב. מצא את האסימפטוטות של הפונקציה המקבילות לצירים.
- ג. הבע באמצעות  $a$  את השיעורים של נקודת החיתוך של גרף הפונקציה עם ציר ה- $x$  ועם ציר ה- $y$ .
- ד. ענה על הסעיפים הבאים:
  - i. מצא עבור אילו ערכים של  $a$  הפונקציה  $f(x)$  עולה לכל  $x$  בתחום ההגדרה.
  - ii. ישר המשיק לגרף הפונקציה  $f(x)$  בנקודה שבה  $x=a$  מקביל לישר המשיק לגרף הפונקציה בנקודה שבה:  $x=2$ . מצא את הערך של  $a$  אם נתון כי הפונקציה עולה לכל  $x$ .

**33** נתונה הפונקציה:  $f(x) = \frac{x^2+ax+6}{x-2}$ ,  $(a \text{ פרמטר})$ .

- ידוע שאחת מנקודות הקיצון של הפונקציה נמצאת על ציר ה- $y$ .
- א. מצא את הערך של  $a$ .
  - ב. הצב את הערך של  $a$  שמצאת בסעיף א' ומצא:
    - i. את תחום ההגדרה של הפונקציה.
    - ii. את נקודות החיתוך של גרף הפונקציה עם הצירים (אם יש כאלה).
    - iii. את השיעורים של נקודות הקיצון של הפונקציה, וקבע את סוגן.
    - iv. את האסימפטוטות של הפונקציה המקבילות לצירים (אם יש כאלה).
  - ג. עבור אלו ערכי  $x$  הפונקציה שלילית?
  - ד. נתון הישר:  $y=k$ . עבור אלו ערכי  $k$  אין נקודות משותפות לישר ולגרף הפונקציה? נמק.

34 נתונה הפונקציה:  $y = \frac{x+3}{x-2} + A$ , (A פרמטר). גרף הפונקציה עובר בנקודה (3A, A).

- א. מצא את ערך הפרמטר A.
  - ב. כתוב את תחום ההגדרה של הפונקציה.
  - ג. הוכח כי גרף הפונקציה יורד לכל x.
  - ד. מצא את נקודת החיתוך של גרף הפונקציה עם ציר ה-y.
  - ה. סרטט סקיצה של גרף הפונקציה.
  - ו. נתון הישר:  $y = k$ .
- האם קיים ערך של k עבורו הישר חותך את גרף הפונקציה בשתי נקודות שונות? נמק.

35 נתונה הפונקציה:  $f(x) = \frac{ax^2 - 20x + 28}{x^2 + 2a}$ .

- ידוע כי גרף הפונקציה חותך את האסימפטוטה האופקית שלו בנקודה (3, 0.5).
- א. מצא את ערך הפרמטר a וכתוב את הפונקציה ואת תחום הגדרתה.
  - ב. מצא את נקודות הקיצון של הפונקציה וקבע את סוגן.
  - ג. כתוב את תחומי העלייה והירידה של הפונקציה.
  - ד. מצא את נקודות החיתוך של גרף הפונקציה עם הצירים.
  - ה. סרטט סקיצה של גרף הפונקציה.
  - ו. העזר בגרף הפונקציה וקבע עבור אלו ערכים של k הישר:  $y = k$  יחתוך את גרף הפונקציה בנקודה אחת בלבד.

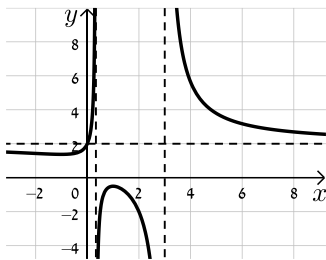
36 ענה על הסעיפים הבאים:

- א. הוכח כי לגרף הפונקציה:  $f(x) = \frac{9-x^2}{x^2-k}$  יש נקודת קיצון שנמצאת על ציר ה-y.
- ב. הוכח כי הפונקציה  $f(x)$  מוגדרת לכל x אם ידוע כי שיעור ה-y של נקודת הקיצון הוא 3.
- ג. מצא את נקודות החיתוך של גרף הפונקציה עם ציר ה-x.
- ד. מצא את האסימפטוטה האופקית של הפונקציה.
- ה. סרטט סקיצה של גרף הפונקציה וקבע בכמה נקודות יחתוך אותו הישר  $y = -1$ . נמק את תשובתך.

**תשובות סופיות:**

20 א.  $x \neq 3, x \neq \frac{1}{3}$  ב.  $\min\left(-1, 1\frac{3}{8}\right), \max\left(1, -\frac{1}{2}\right)$

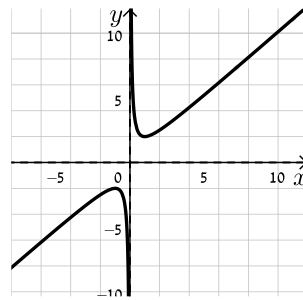
ג. תחומי עלייה:  $-1 < x < 1$  וגם  $x \neq \frac{1}{3}$ , תחומי ירידה:  $1 < x \neq 3$  או  $x < -1$ .



ד.  $(0, 2)$  ה.  $x = 3, x = \frac{1}{3}, y = 2$  ו. להלן סקיצה:

21 א.  $x \neq 0$  ב.  $\min(1, 2), \max(-1, -2)$

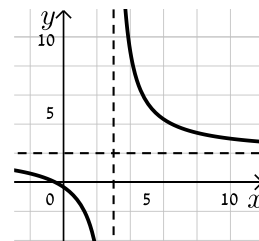
ג. עולה:  $x > 1$  או  $x < -1$ , יורדת:  $-1 < x < 1$ ,  $x \neq 0$  ד. אין



ה. להלן סקיצה:

22 א.  $x \neq 3$  ב. אין ג. הפונקציה יורדת בכל ת.ה.

ד.  $\left(-\frac{1}{2}, 0\right), \left(0, -\frac{1}{3}\right)$  ה.  $y = 2, x = 3$



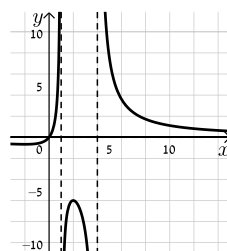
ו. להלן סקיצה:

23 א.  $x \neq 1, x \neq 4$  ב.  $\min\left(-2, -\frac{2}{3}\right), \max(2, -6)$

ג. תחומי עלייה:  $-2 < x < 2$ ,  $x \neq 1$ , תחומי ירידה:  $x < -2$  או  $x > 2$ ,  $x \neq 4$

ד.  $(0, 0)$  (אסימפטוטות:  $y = 0, x = 1, x = 4$ ).

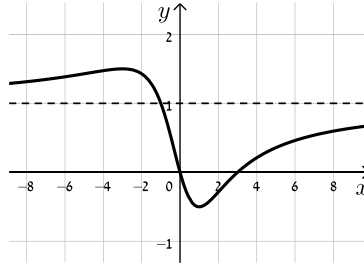
ה. להלן סקיצה:



24) א. כל  $x$       ב.  $\min\left(1, -\frac{1}{2}\right), \max\left(-3, 1\frac{1}{2}\right)$

ד.  $(0,0), (3,0)$  (אסימפטוטה:  $y=1$ ).

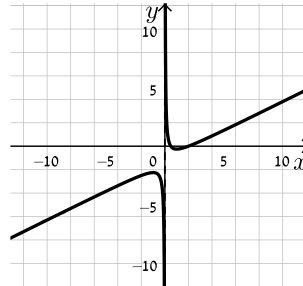
ג. עולה:  $x > 1$  או  $x < -3$ , יורדת:  $-3 < x < 1$   
ה. להלן סקיצה:



25) א.  $x \neq 0$       ב.  $\min(1, -0.25), \max(-1, -2.25)$

ג. עולה:  $x > 1, x < -1$ , יורדת:  $-1 < x < 1, x \neq 0$       ד.  $(0.5, 0), (2, 0)$       ה.  $x=0$

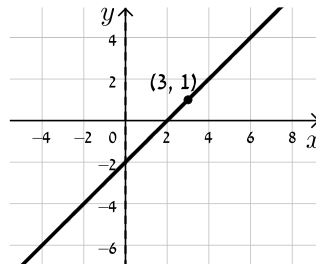
ו. להלן סקיצה:



26) א.  $x \neq 3$       ב. אין      ג. הפונקציה עולה בכל תחום הגדרתה

ד.  $(0, -2), (2, 0)$       ה. אין, יש נקודת אי הגדרה ששיעוריה  $(3, 1)$ .

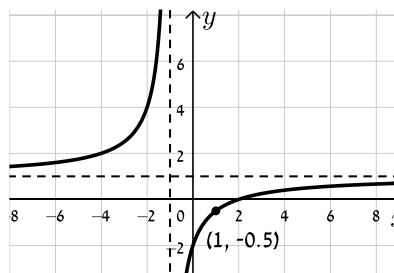
ו. להלן סקיצה:



27) א.  $x \neq \pm 1$       ב. אין      ג. הפונקציה עולה בכל תחום הגדרתה

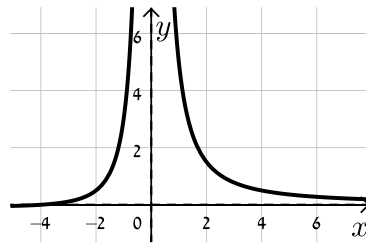
ד.  $(0, -2), (2, 0)$       ה.  $y=1, x=-1$ , יש נקודת אי הגדרה:  $\left(1, -\frac{1}{2}\right)$ .

ו. להלן סקיצה:



28 א.  $f(x) = \frac{x+4}{x^2}$ ,  $a=1$  ב. עולה:  $-8 < x < 0$  יורדת:  $x < -8, x > 0$

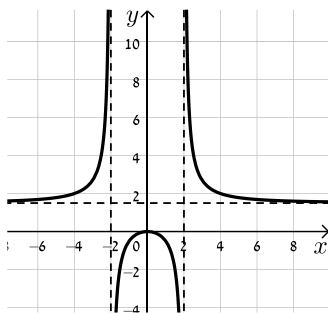
ג.  $(-4, 0)$  ד.  $x=0, y=0$



ה. להלן סקיצה:

29 א.  $x \neq \pm 2$  ב.  $\max(0, 0)$  ג. יורדת:  $x > 0, x \neq 2$  עולה:  $x < 0, x \neq -2$

ד.  $(0, 0)$  ה.  $x = \pm 2, y = 1.5$  ו. להלן סקיצה:



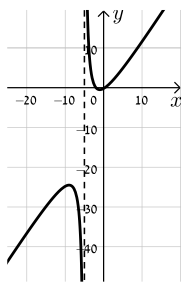
30 א.  $a = \pm 2$  ב.  $(1, 0), (0, 4)$

ג. המשיק:  $y = -4x + 4$  אשר עובר בנקודה  $(1, 0)$ . נקודת החיתוך:  $(1, 0)$ .

31 א.  $x \neq -5$  ב.  $\min(-1, -0.5), \max(-9, -24.5)$

ג. עולה:  $x < -9, x > -1$  יורדת:  $-9 < x < -1$

ד.  $(-2, 0), (\frac{1}{3}, 0), (0, -0.2)$  ה.  $x = -5$  ו. להלן סקיצה:



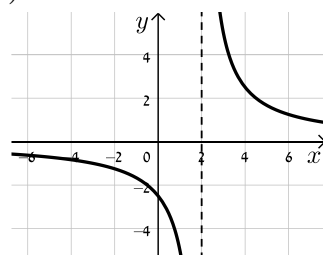
32 א.  $x \neq 1$  ב.  $x=1, y=1$  ג.  $(a, 0), (0, a)$  ד. i.  $a > 1$  ii.  $a = 2$

33 א.  $a = -3$  ב. i.  $x \neq 2$  ii.  $(0, -3)$  iii.  $\max(0, -3), \min(4, 5)$

ג.  $x < 2$  ד. iv.  $x = 2$

34 א.  $A = -1$  ב.  $x \neq 2$  ד.  $(0, -2.5)$

ו. לא



ה. להלן סקיצה:

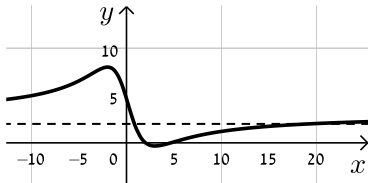
35 א.  $f(x) = \frac{3x^2 - 20x + 28}{x^2 + 6}$ ,  $a = 3$ . כל  $x$ .

ב.  $\min\left(3, -\frac{1}{3}\right)$ ,  $\max(-2, 8)$

ד.  $(2, 0)$ ,  $\left(0, 4\frac{2}{3}\right)$ ,  $\left(4\frac{2}{3}, 0\right)$

ו.  $k = 8$ ,  $-\frac{1}{3}$ ,  $3$

ג. עולה:  $x < -2$ ,  $x > 3$ , יורדת:  $-2 < x < 3$



ה. להלן סקיצה:

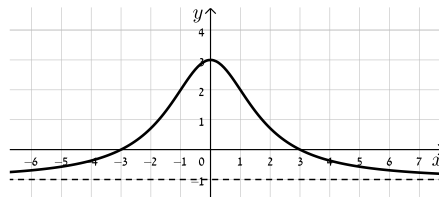
ה. באף נקודה.

ד.  $y = -1$

ג.  $(3, 0)$ ,  $(-3, 0)$

ב.  $k = -3$

ו. להלן סקיצה:



## חקירת פונקציות שורש:

### שאלות:

**(37)** נתונה הפונקציה:  $f(x) = \sqrt{x-3}$ . חקור את הפונקציה לפי הסעיפים הבאים:

- א. מציאת תחום ההגדרה.
- ב. מציאת נקודות הקיצון של הפונקציה.
- ג. כתיבת תחומי העלייה והירידה של הפונקציה.
- ד. מציאת נקודות החיתוך של גרף הפונקציה עם הצירים.
- ה. מציאת אסימפטוטות המקבילות לצירים.
- ו. שרטוט סקיצה של גרף הפונקציה.

**(38)** נתונה הפונקציה:  $f(x) = (x-4)\sqrt{x-1}$ . חקור את הפונקציה לפי הסעיפים הבאים:

- א. מציאת תחום ההגדרה.
- ב. מציאת נקודות הקיצון של הפונקציה.
- ג. כתיבת תחומי העלייה והירידה של הפונקציה.
- ד. מציאת נקודות החיתוך של גרף הפונקציה עם הצירים.
- ה. מציאת אסימפטוטות המקבילות לצירים.
- ו. שרטוט סקיצה של גרף הפונקציה.

**(39)** נתונה הפונקציה:  $f(x) = x\sqrt{6-x}$ . חקור את הפונקציה לפי הסעיפים הבאים:

- א. מציאת תחום ההגדרה.
- ב. מציאת נקודות הקיצון של הפונקציה.
- ג. כתיבת תחומי העלייה והירידה של הפונקציה.
- ד. מציאת נקודות החיתוך של גרף הפונקציה עם הצירים.
- ה. שרטוט סקיצה של גרף הפונקציה.

40 נתונה הפונקציה:  $f(x) = \frac{4\sqrt{x}}{x^2+3}$ . חקור את הפונקציה לפי הסעיפים הבאים:

- א. מציאת תחום ההגדרה.
- ב. מציאת נקודות הקיצון של הפונקציה.
- ג. כתיבת תחומי העלייה והירידה של הפונקציה.
- ד. מציאת נקודות החיתוך של גרף הפונקציה עם הצירים.
- ה. מציאת אסימפטוטות המקבילות לצירים.
- ו. שרטוט סקיצה של גרף הפונקציה.

41 נתונה הפונקציה:  $f(x) = \frac{\sqrt{9-x^2}}{x}$ . חקור את הפונקציה לפי הסעיפים הבאים:

- א. מציאת תחום ההגדרה.
- ב. מציאת נקודות הקיצון של הפונקציה.
- ג. כתיבת תחומי העלייה והירידה של הפונקציה.
- ד. מציאת נקודות החיתוך של גרף הפונקציה עם הצירים.
- ה. מציאת אסימפטוטות המקבילות לצירים.
- ו. שרטוט סקיצה של גרף הפונקציה.

42 נתונה הפונקציה הבאה:  $f(x) = \frac{\sqrt{x^2-2x}}{x^2}$ .

- א. מה הוא תחום ההגדרה של הפונקציה?
- ב. מצא את נקודות קיצון של הפונקציה וקבע את סוגן.
- ג. מצא את נקודת החיתוך של גרף הפונקציה עם ציר ה- $x$ .
- ד. סרטט סקיצה של גרף הפונקציה.

43 נתונה הפונקציה הבאה:  $f(x) = \frac{x^2-4}{\sqrt{x}}$ .

- א. מצא את נקודת החיתוך של הפונקציה עם ציר ה- $x$ .
- ב. האם ניתן להעביר משיק לגרף הפונקציה המקביל לציר ה- $x$ ? נמק והראה חישוב מתאים.
- ג. כתוב את משוואת המשיק לגרף הפונקציה העובר דרך נקודת החיתוך שלה עם ציר ה- $x$ .
- ד. חשב את שטח המשולש הכלוא בין המשיק והצירים.

44 נתונה הפונקציה הבאה:  $f(x) = \frac{x+3}{\sqrt{x}-1}$ .

- מהו תחום הגדרה של הפונקציה?
- כמה נקודות יש לגרף הפונקציה שהמשיק העובר דרכן מקביל לציר ה- $x$ ? מצא אותן.
- כתוב את משוואות המשיקים בנקודות שמצאת בסעיף הקודם.

45 נתונה הפונקציה:  $f(x) = \frac{\sqrt{9-x^2}}{x}$ . חקור לפי הסעיפים הבאים:

- מציאת תחום הגדרה.
- מציאת נקודות קיצון של הפונקציה.
- כתיבת תחומי העלייה והירידה של הפונקציה.
- מציאת נקודות החיתוך של גרף הפונקציה עם הצירים.
- מציאת אסימפטוטות המקבילות לצירים.
- סרטוט סקיצה של גרף הפונקציה.

46 נתונה הפונקציה הבאה:  $f(x) = \frac{ax+6}{\sqrt{9-x^2}}$ , פרמטר  $a$ .

- מעבירים משיק לגרף הפונקציה בנקודת החיתוך שלה עם ציר ה- $y$ . ידוע כי הוא מקביל לישר:  $3y-x=0$ .
- מצא את ערך הפרמטר  $a$ .
  - כתוב את תחום ההגדרה של הפונקציה.
  - מצא את נקודת הקיצון של הפונקציה.
  - כתוב את התחומי העלייה והירידה של הפונקציה.

47 נתונות שתי הפונקציות הבאות:  $f(x) = \frac{x}{\sqrt{x+k}}$ ,  $g(x) = \frac{\sqrt{x-k}}{x}$  ( $k$  פרמטר חיובי).

- ידוע כי הפונקציות חותכות זו את זו בנקודה שבה:  $x=0.8$ .
- מצא את  $k$ .
  - האם הפונקציות נחתכות בנקודה נוספת מלבד לנקודה הנתונה? אם כן מצא אותה.
  - מצא את משוואת המשיק לגרף הפונקציה  $f(x)$  בנקודה שבה:  $x=0.52$ .

48 נתונה הפונקציה הבאה:  $f(x) = \frac{kx}{\sqrt{k-x^2}}$ , פרמטר חיובי.

- א. ענה על הסעיפים הבאים:
- מהו תחום ההגדרה של הפונקציה? (בטא באמצעות  $k$ ).
  - מהן האסימפטוטות האנכיות של הפונקציה?
- ב. הראה כי הפונקציה עולה עבור כל ערך של  $k$  בתחום הגדרתה.
- ג. כתוב את משוואת המשיק לגרף הפונקציה בנקודת החיתוך שלה עם ציר ה- $x$ . (בטא באמצעות  $k$ ).
- ד. המשיק אשר מצאת בסעיף הקודם חותך את אחת האסימפטוטות של הפונקציה בנקודה A. ידוע כי שטח המשולש הכלוא בין המשיק, ציר ה- $x$  והאסימפטוטה הנ"ל הוא:  $S = 4$  יח"ש. מצא את ערך הפרמטר  $k$ .

49 נתונה הפונקציה:  $f(x) = \frac{x+2}{x+4}$ . מגדירים פונקציה נוספת:  $g(x) = \sqrt{f(x)}$ .

- א. כתוב בצורה מפורשת את הפונקציה  $g(x)$ .
- ב. לפניך מספר טענות המתייחסות לפונקציות  $f(x)$  ו- $g(x)$ . קבע אילו מהטענות הבאות נכונות ואלו אינן נכונות. הצדק את קביעותיך באמצעות חישוב מתאים:
- לפונקציות תחום הגדרה זהה.
  - שתי הפונקציות עולות בכל תחום הגדרתן.
  - שתי הפונקציות חותכות את ציר ה- $x$  באותה נקודה.
  - לשתי הפונקציות יש אסימפטוטה משותפת.
- ג. מצא את נקודות החיתוך של כל פונקציה עם ציר ה- $y$ . אסף פתר את סעיפים א' ו-ב' והחליט לטעון את הטענה הבאה:
- היות והפונקציה  $g(x)$  מוגדרת להיות:  $g(x) = \sqrt{f(x)}$  אזי ניתן למצוא את שיעור ה- $y$  של כל נקודה שעל גרף הפונקציה  $f(x)$  ע"י כך שנמצא תחילה את שיעור ה- $y$  של הנקודה בעלת אותו שיעור  $x$  על הגרף של  $g(x)$  ונעלה אותה בריבוע.
- ד. האם אסף צודק? נמק בצורה איכותית (חישובים אינם נדרשים) את שיקולך.

50) לפניך הפונקציות הבאות:  $f(x) = \frac{x}{\sqrt{x-1}}$ ,  $g(x) = \frac{x}{\sqrt{x-1}}$

א. קבע אילו מהטענות הבאות נכונות ואלו אינן נכונות. הצדק את קביעותיך באמצעות חישוב מתאים:

i. לשתי הפונקציות יש את אותו תחום ההגדרה.

ii. לשתי הפונקציות יש נקודות קיצון הנמצאות על הישר:  $y = x$ .

iii. הפונקציות לא חותכות זו את זו.

מגדירים פונקציה נוספת והיא:  $h(x) = (g(x))^2$ .

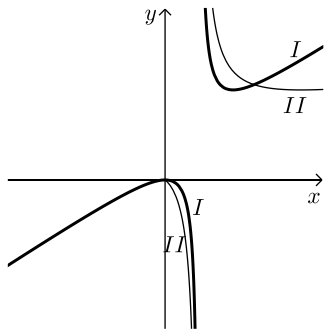
ב. כתוב באופן מפורש את הפונקציה החדשה:  $h(x)$ .

ג. האם תחום ההגדרה של הפונקציה  $h(x)$  זהה לשל  $g(x)$ ?

ד. באיור הסמוך ישנם שני גרפים.

קבע על סמך הסעיפים הקודמים איזו פונקציה כל גרף

מתאר מבין הפונקציות:  $f(x)$ ,  $g(x)$ ,  $h(x)$ . נמק את בחירותיך.



51) לפניך שלוש פונקציות:  $f(x) = x^2\sqrt{k-x^2}$ ,  $g(x) = \frac{x^2}{\sqrt{k-x^2}}$ ,  $h(x) = \frac{\sqrt{k-x^2}}{x^2}$  ( $k > 0$ ).

א. קבע אילו מהטענות הבאות נכונות ואלו אינן נכונות. הצדק את קביעותיך באמצעות חישוב מתאים:

i. לפונקציות  $f(x)$  ו- $g(x)$  תחום הגדרה זהה, השונה מתחום ההגדרה של  $h(x)$ .

ii. קיימת פונקציה אשר אינה חותכת את ציר ה- $x$  כלל.

iii. הפונקציות:  $h(x)$  ו- $g(x)$  הפוכות זו מזו בתחומי העלייה והירידה שלהן

(כאשר אחת עולה השנייה יורדת).

iv. לפונקציה:  $f(x)$  יש נקודת קיצון אחת בלבד.

מסמנים נקודה  $A(0, \sqrt{12})$  על ציר ה- $y$ . ידוע כי מרחקה מאחת מנקודות החיתוך

של גרף הפונקציה  $f(x)$  עם ציר ה- $x$  שאינה בראשית הוא:  $d = 6$ .

ב. מצא את  $k$ .

ג. מצא את נקודות הקיצון של גרף

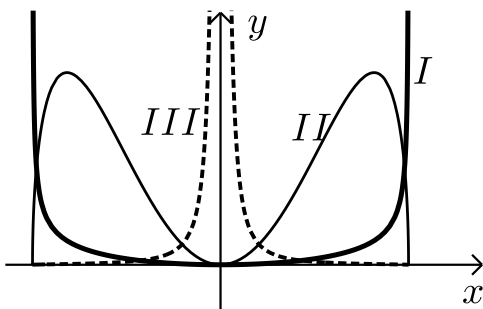
הפונקציה  $f(x)$  וקבע את סוגן.

ד. לפניך איור ובו מסורטטות הסקיצות של

שלושת הפונקציות.

קבע עפ"י הסעיפים הקודמים איזה גרף

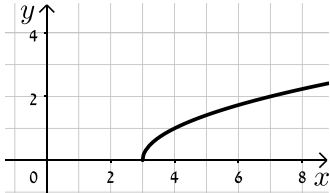
שייך לכל פונקציה.



**תשובות סופיות:**

**(37)** א.  $x \geq 3$     ב. קצה  $\min(3,0)$     ג. הפונקציה עולה בכל ת.ה.

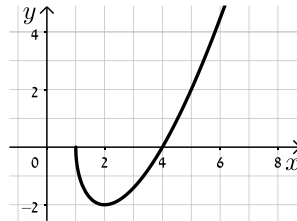
ד.  $(3,0)$     ה. אין.    ו. להלן סקיצה:



**(38)** א.  $x \geq 1$     ב. קצה  $\max(1,0)$ ,  $\min(2,-2)$

ג. עולה:  $x > 2$ , יורדת:  $1 < x < 2$     ד.  $(1,0)$ ,  $(4,0)$     ה. אין.

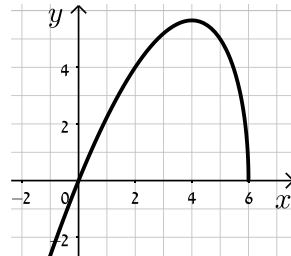
ו. להלן סקיצה:



**(39)** א.  $x \leq 6$     ב. קצה  $\min(6,0)$ ,  $\max(4,4\sqrt{2})$

ג. עלייה:  $x < 4$ , ירידה:  $4 < x < 6$     ד.  $(6,0)$ ,  $(0,0)$

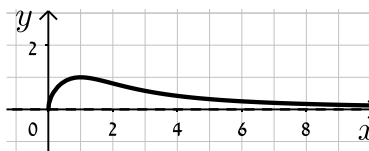
ה. להלן סקיצה:



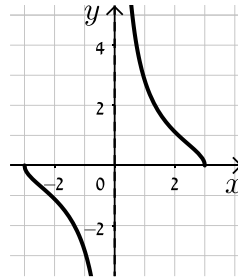
**(40)** א.  $x \geq 0$     ב. קצה  $\min(0,0)$ ,  $\max(1,1)$

ג. עולה:  $0 < x < 1$ , יורדת:  $x > 1$     ד.  $(0,0)$     ה.  $y = 0$ .

ו. להלן סקיצה:

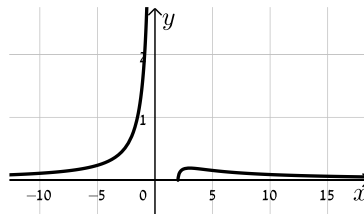


- (41)** א.  $-3 \leq x \leq 3$  וגם  $x \neq 0$       ב.  $\max(-3,0)$  קצה,  $\min(3,0)$  קצה  
 ג. עולה: אף  $x$ , יורדת:  $-3 \leq x \leq 3, x \neq 0$       ד.  $(-3,0), (3,0)$



ה.  $x=0$ .      ו. להלן סקיצה:

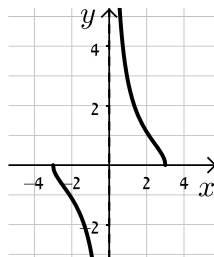
- (42)** א.  $x < 0, x \geq 2$       ב.  $\min(2,0), \max\left(3, \frac{1}{\sqrt{27}}\right)$       ג.  $(2,0)$       ד. להלן סקיצה:



- (43)** א.  $(2,0)$       ב. לא      ג.  $y = 2\sqrt{2}x - 4\sqrt{2}$       ד.  $S = 4\sqrt{2}$

- (44)** א.  $x \neq 1, x \geq 0$       ב.  $(9,6)$       ג.  $y = 6$

- (45)** א.  $-3 \leq x \leq 3$  וגם  $x \neq 0$       ב.  $\max(-3,0)$  קצה,  $\min(3,0)$  קצה  
 ג. עולה: אף  $x$ , יורדת:  $-3 \leq x \leq 3$  וגם  $x \neq 0$       ד.  $(-3,0), (3,0)$



ה.  $x=0$ .      ו. להלן סקיצה:

- (46)** א.  $a=1$       ב.  $-3 < x < 3$       ג.  $(-1.5, \sqrt{3})$       ד. יורדת:  $-3 < x < -1.5$ , עולה:  $-1.5 < x < 3$

- (47)** א.  $k=0.48$       ב. כן,  $(0.6, 0.57)$       ג.  $y = 0.74x + 0.1352$

- (48)** א. i.  $-\sqrt{k} < x < \sqrt{k}$       ii.  $x = \pm\sqrt{k}$       ב.  $f'(x) = \frac{k^2}{(k-x^2)^{1.5}} > 0$       ג.  $y = \sqrt{k}x$       ד.  $k=4$

$$g(x) = \sqrt{\frac{x+2}{x+4}} \quad \text{א. (49)}$$

ב. i. לא נכון      ii. נכון

$$f(x) : \left(0, \frac{1}{2}\right), g(x) : \left(0, \frac{1}{\sqrt{2}}\right) \quad \text{ג.}$$

iii. נכון      iv. נכון

ד. אסף צודק.

$$h(x) = \frac{x^2}{x-1} \quad \text{ב.}$$

iii. נכון

א. i. לא נכון      ii. נכון      (50)

$$\text{I} = h(x), \text{II} = f(x) \quad \text{ד.}$$

$$h(x) : x \neq 1, \text{ג.}$$

iv. נכון

iii. נכון

ii. לא נכון

i. לא נכון      (51)

$$\text{ב. } k = 24 \quad \text{ג. } \min(0,0), \max(\pm 4, 32\sqrt{2})$$

$$\text{ד. } \text{I} = g(x), \text{II} = f(x), \text{III} = h(x)$$

## תחומי קעירות ונקודות פיתול:

### סיכום כללי:

#### תחומי קעירות – הגדרה:

- פונקציה  $f(x)$  קעורה כלפי מטה (קמורה) בתחום  $[x_0, x_1]$  אם לכל  $x$  בתחום הנ"ל המשיק לפונקציה נמצא מעל לגרף הפונקציה.  
כדי למצוא תחומי קעירות כלפי מטה יש למצוא תחום שבו:  $f''(x) < 0$ .
- פונקציה  $f(x)$  קעורה כלפי מעלה (קעורה) בתחום  $[x_0, x_1]$  אם לכל  $x$  בתחום הנ"ל המשיק לפונקציה נמצא מתחת לגרף הפונקציה.  
כדי למצוא תחומי קעירות כלפי מעלה יש למצוא תחום שבו:  $f''(x) > 0$ .

#### נקודת פיתול – הגדרות:

- נקודת פיתול היא נקודה שבה הפונקציה עוברת מתחום קעירות כלפי מטה לקעירות כלפי מעלה ולהיפך.
- נקודת פיתול מקיימת:  $f''(x) = 0$  כאשר ערך הנגזרת השנייה משנה את סימנו בתחום שלפני ואחרי הנקודה המאפסת אותו.
- בנקודת פיתול המשיק לגרף הפונקציה חותך אותה ולא רק משיק לה מכיוון אחד.

### שאלות:

(52) מצא את נקודות הפיתול ואת תחומי הקעירות של הפונקציה:  $f(x) = x^4 - 6x^3 + 12x^2$ .

(53) מצא את נקודות הפיתול ואת תחומי הקעירות של הפונקציה:  $f(x) = \frac{3x-2}{x^2}$ .

(54) מצא את נקודות הקיצון והפיתול של הפונקציה:  $f(x) = \frac{2x}{\sqrt{x-1}}$ .

(55) מצא את נקודות הקיצון והפיתול של הפונקציה:  $f(x) = x(x-2)^3$ .

56 נתונה הפונקציה:  $f(x) = \frac{a}{x^2 + b}$ ,  $a, b$  פרמטרים.

הנקודה  $(-1, 1)$  היא נקודת פיתול של הפונקציה.  
מצא את ערכי הפרמטרים  $a, b$ .

57 נתונה הפונקציה:  $f(x) = \frac{1}{x} - \frac{1}{x^2} + 2$ . חקור את הפונקציה לפי הסעיפים הבאים:

- א. מציאת תחום הגדרה.
- ב. מציאת נקודות קיצון של הפונקציה.
- ג. כתיבת תחומי העלייה והירידה של הפונקציה.
- ד. מציאת נקודות החיתוך של גרף הפונקציה עם הצירים.
- ה. מציאת אסימפטוטות המקבילות לצירים.
- ו. מציאת נקודות פיתול.
- ז. מציאת תחומי הקעירות כלפי מעלה ומטה.
- ח. סרטוט סקיצה של גרף הפונקציה.

58 נתונה הפונקציה:  $f(x) = \frac{2x}{x - \sqrt{x}}$ . חקור את הפונקציה לפי הסעיפים הבאים:

- א. מציאת תחום הגדרה.
- ב. מציאת נקודות קיצון של הפונקציה.
- ג. כתיבת תחומי העלייה והירידה של הפונקציה.
- ד. מציאת נקודות החיתוך של גרף הפונקציה עם הצירים.
- ה. מציאת אסימפטוטות המקבילות לצירים.
- ו. מציאת נקודות פיתול.
- ז. מציאת תחומי הקעירות כלפי מעלה ומטה.
- ח. סרטוט סקיצה של גרף הפונקציה.

59) חקור את הפונקציות הבאות לפי הסעיפים הבאים :

- i. מציאת תחום הגדרה.
- ii. מציאת נקודות חיתוך עם הצירים.
- iii. מציאת נקודות קיצון וקביעת סוגן.
- iv. מציאת תחומי העלייה והירידה של הפונקציה.
- v. מציאת אסימפטוטות המקבילות לצירים.
- vi. מציאת נקודות הפיתול של הפונקציה.
- vii. מציאת תחומי הקעירות של הפונקציה.
- viii. סרטוט סקיצה של גרף הפונקציה.

$$f(x) = \frac{2x^2}{(x+1)^2} \quad \text{ב.} \qquad f(x) = \frac{x-1}{x^2} \quad \text{א.}$$

$$f(x) = \frac{x^3}{(x+1)^2} \quad \text{ד.} \qquad f(x) = \frac{x^3}{x^2-4} \quad \text{ג.}$$

$$f(x) = \frac{x^2-1}{(x-2)(x-5)} \quad \text{ו.} \qquad f(x) = \left(\frac{x+1}{x-1}\right)^3 \quad \text{ה.}$$

$$f(x) = \frac{x^3-x^2}{x^2-1} \quad \text{ח.} \qquad f(x) = \frac{x^2-4x+3}{x^2-4} \quad \text{ז.}$$

הערה: בסעיפים ו ו-ז יש לבצע חקירה ללא סעיפים vi ו-vii.

**תשובות סופיות:**

52 (1,7), (2,16) , קעירות כלפי מעלה :  $x > 2$  או  $x < 1$  , קעירות כלפי מטה :  $1 < x < 2$  .

53 (2,1) , קעירות כלפי מעלה :  $x > 2$  , קעירות כלפי מטה :  $0 \neq x < 2$  .

54 קיצון :  $\min(2,4)$  , פיתול :  $\left(4, \frac{8}{\sqrt{3}}\right)$  .

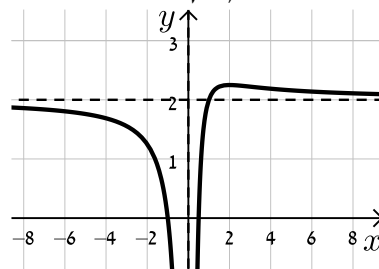
55 קיצון :  $\min\left(\frac{1}{2}, -\frac{27}{16}\right)$  , פיתול : (1,-1), (2,0) .

56 .  $a = 4, b = 3$

57 א.  $x \neq 0$  . ב.  $\max\left(2, 2\frac{1}{4}\right)$  . ג. עולה :  $0 < x < 2$  ; יורדת :  $x > 2, x < 0$  .

ד.  $\left(\frac{1}{2}, 0\right), (-1, 0)$  . ה.  $x = 0, y = 2$  . ו.  $\left(3, 2\frac{2}{9}\right)$  .

ז. קעירות כלפי מעלה :  $x > 3$  , קעירות כלפי מטה :  $0 \neq x < 3$  .

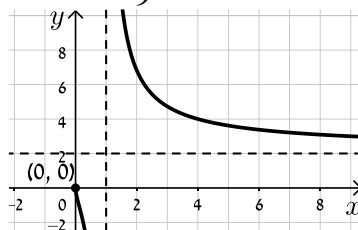


ח. להלן סקיצה :

58 א.  $1 \neq x > 0$  . ב. אין . ג. יורדת בכל תחום הגדרתה .

ד. אין . ה.  $x = 1, y = 2$  נקודת אי הגדרה : (0,0) . ו.  $\left(\frac{1}{9}, -1\right)$  .

ז. קעירות כלפי מעלה :  $x > 1$  או  $0 < x < \frac{1}{9}$  , קעירות כלפי מטה :  $\frac{1}{9} < x < 1$  .



ח. להלן סקיצה :

59 א. i.  $x \neq 0$  . ii. (1,0) . iii.  $x = 0, y = 0$  . iv.  $\max(2, 0.25)$  .

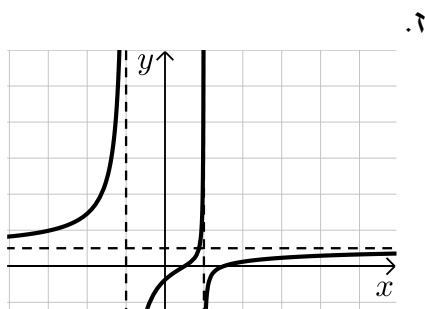
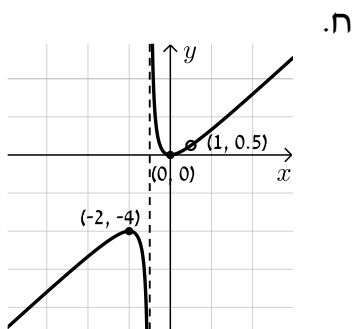
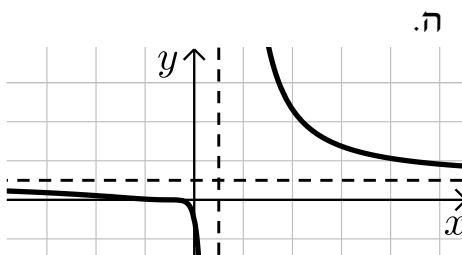
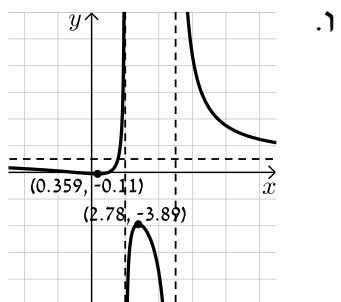
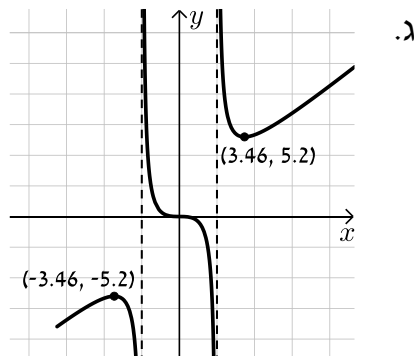
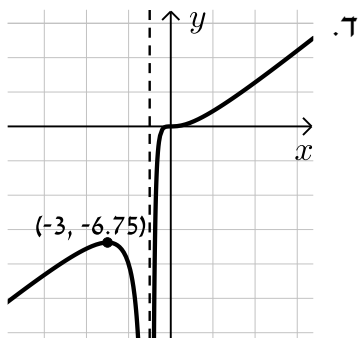
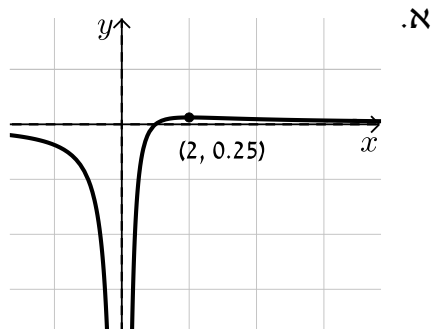
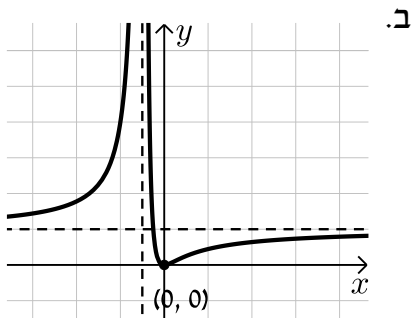
v. עולה :  $0 < x < 2$  , יורדת :  $x < 0, x > 2$  . vi.  $\left(3, \frac{2}{9}\right)$  .

vii. קעורה כלפי מעלה :  $x > 3$  , קעורה כלפי מטה :  $0 < x < 3, x < 0$  .

ב. i.  $x \neq -1$  . ii. (0,0) . iii.  $x = -1, y = 2$  . iv.  $\min(0,0)$  .

- v. עולה:  $x < -1$ ,  $x > 0$ , יורדת:  $-1 < x < 0$  .vi  $\left(\frac{1}{2}, \frac{2}{9}\right)$
- vii. קעורה כלפי מעלה:  $-1 < x < \frac{1}{2}$ , קעורה כלפי מטה:  $x < -1$ ,  $x < \frac{1}{2}$
- ג. i.  $x \neq \pm 2$  .ii  $(0,0)$  .iii  $x = \pm 2$
- iv.  $\min(\sqrt{12}, 5.2)$ ,  $\max(-\sqrt{12}, -5.2)$
- v. עולה:  $x > \sqrt{12}$ ,  $x < -\sqrt{12}$ , יורדת:  $2 < x < \sqrt{12}$ ,  $-2 < x < 2$ ,  $-\sqrt{12} < x < -2$  .vi  $(0,0)$
- vii. קעורה כלפי מעלה:  $x > 2$ ,  $-2 < x < 0$ , קעורה כלפי מטה:  $0 < x < 2$ ,  $x < -2$
- ד. i.  $x \neq -1$  .ii  $(0,0)$  .iii  $x = -1$  .iv  $\max(-3, -6.75)$
- v. עולה:  $x > -1$ ,  $x < -3$ , יורדת:  $-3 < x < -1$  .vi  $(0,0)$
- vii. קעורה כלפי מעלה:  $x > 0$ , קעורה כלפי מטה:  $-1 < x < 0$ ,  $x < -1$
- ה. i.  $x \neq 1$  .ii  $(-1,0), (0,-1)$  .iii  $x = 1, y = 1$  .iv אין
- v. יורדת בכל ת.ה. .vi  $\left(-3, \frac{1}{8}\right), (-1,0)$
- vii. קעורה כלפי מעלה:  $-3 < x < -1$ ,  $x > 1$ , קעורה כלפי מטה:  $-1 < x < 1$ ,  $x < -3$
- ו. i.  $x \neq 2, 5$  .ii  $(0,-0.1), (-1,0), (1,0)$  .iii  $x = 2, x = 5, y = 1$
- iv.  $\min(0.359, -0.11)$ ,  $\max(2.78, -3.89)$
- v. עולה:  $2 < x < 2.78$ ,  $0.359 < x < 2$ , יורדת:  $x > 5$ ,  $2.78 < x < 5$ ,  $x < 0.359$
- ז. i.  $x \neq \pm 2$  .ii  $(3,0), (1,0), (0,-0.75)$  .iii  $x = \pm 2, y = 1$
- iv. אין .v יורדת בכל ת.ה.
- ח. i.  $x \neq \pm 1$  .ii  $(0,0)$  .iii  $x = -1$  .iv  $\min(0,0)$ ,  $\max(-2,-4)$
- v. עולה:  $x > 0$ ,  $x < -2$ ,  $x \neq 1$ , יורדת:  $-1 < x < 0$ ,  $-2 < x < -1$
- vi. אין .vii קעורה כלפי מעלה:  $x > -1$ ,  $x \neq 1$ , קעורה כלפי מטה:  $x < -1$

**סקיצות:**



## חקירת פונקציה עם פרמטר:

### סיכום כללי:

סיווג נקודות קיצון באמצעות  $y''$  :

אם הנקודה  $A(x_1, y_1)$  היא נקודת קיצון אז :

- אם  $f''(x_1) > 0$  הנקודה  $A(x_1, y_1)$  היא נקודת מינימום.
- אם  $f''(x_1) < 0$  הנקודה  $A(x_1, y_1)$  היא נקודת מקסימום.

### שאלות:

(1) מצא וסווג את נקודות הקיצון של הפונקציה:  $f(x) = x^3 - 12x$ .

(2) מצא וסווג את נקודות הקיצון של הפונקציה:  $f(x) = x^2 - 6x - 16$ .

(3) מצא וסווג את נקודות הקיצון של הפונקציה:  $f(x) = x^3 - 3b^2x$ ,  $b > 0$ , פרמטר. שרטט סקיצה של גרף הפונקציה.

(4) נתונה הפונקציה:  $f(x) = \frac{2x}{a^2 + x^2}$  ( $a > 0$ ). חקור לפי הסעיפים הבאים:

- א. מציאת תחום ההגדרה.
- ב. מציאת נקודות קיצון של הפונקציה.
- ג. כתיבת תחומי העלייה והירידה של הפונקציה.
- ד. מציאת נקודות החיתוך של גרף הפונקציה עם הצירים.
- ה. מציאת אסימפטוטות המקבילות לצירים.
- ו. שרטוט סקיצה של גרף הפונקציה.

(5) נתונה הפונקציה:  $f(x) = \frac{1-x^2}{(x-b)^2}$ ,  $(b > 1)$ . חקור לפי הסעיפים הבאים:

- א. מציאת תחום ההגדרה.
- ב. מציאת נקודות קיצון של הפונקציה.
- ג. כתיבת תחומי העלייה והירידה של הפונקציה.
- ד. מציאת נקודות החיתוך של גרף הפונקציה עם הצירים.
- ה. מציאת אסימפטוטות המקבילות לצירים.
- ו. שרטוט סקיצה של גרף הפונקציה.

(6) נתונה הפונקציה:  $f(x) = 4x\sqrt{b^2 - x^2}$ ,  $(b > 0)$ .

חקור לפי הסעיפים הבאים:

- א. מציאת תחום ההגדרה.
- ב. מציאת נקודות קיצון של הפונקציה.
- ג. כתיבת תחומי העלייה והירידה של הפונקציה.
- ד. מציאת נקודות החיתוך של גרף הפונקציה עם הצירים.
- ה. שרטוט סקיצה של גרף הפונקציה.

(7) נתונה הפונקציה:  $f(x) = \frac{x^2 - m}{ax - 4}$ ,  $a, m$  פרמטרים קבועים כאשר:  $a > 0$ .

ידוע כי אחת מנקודות הקיצון של הפונקציה נמצאת על ציר ה- $y$ .

- א. מצא את הערך של הפרמטר  $m$ .
- ב. הצב את הערך של  $m$  שמצאת בסעיף א' והבא באמצעות  $a$  את:
  - i. תחום ההגדרה של הפונקציה.
  - ii. נקודות הקיצון של הפונקציה וקבע את סוגן.
  - iii. האסימפטוטות לגרף הפונקציה המקבילות לצירים.
- ג. סרטט סקיצה וסמן בה את נקודות הקיצון ואת משוואות האסימפטוטות שהבעת באמצעות  $a$  בסעיף הקודם.
- ד. ידוע כי נקודת הקיצון שאינה על ציר ה- $y$  נמצאת במרחקים שווים מהצירים. מצא את הערך של הפרמטר  $a$ .
- ה. נתון הישר:  $y = k$ . מצא עבור אילו ערכים של  $k$  אין לישר ולגרף הפונקציה נקודות משותפות כלל.

**תשובות סופיות:**

(1)  $\min(2, -16)$  ,  $\max(-2, 16)$

(2)  $\min(3, -25)$

(3)  $\min(b, -2b^3)$  ,  $\max(-b, 2b^3)$

(4) א. כל  $x$  ב.  $\max\left(a, \frac{1}{a}\right)$  ,  $\min\left(-a, -\frac{1}{a}\right)$

ג. עולה:  $-a < x < a$  יורדת:  $x < -a$  ,  $x > a$

ד.  $(0, 0)$  ה. אסימפטוטה אופקית:  $y = 0$

(5) א.  $x \neq b$  ב.  $\max\left(\frac{1}{b}, \frac{1}{b^2 - 1}\right)$  ג. עולה:  $x > b$  ,  $x < \frac{1}{b}$  יורדת:  $\frac{1}{b} < x < b$

ד.  $\left(0, \frac{1}{b^2}\right)$  ,  $(-1, 0)$  ,  $(1, 0)$  ה.  $x = b$  ,  $y = -1$

(6) א.  $-b \leq x \leq b$  ב.  $\min\left(-\frac{b}{\sqrt{2}}, -2b^2\right)$  ,  $\max\left(\frac{b}{\sqrt{2}}, 2b^2\right)$  ,  $\min(-b, 0)$  קצה,

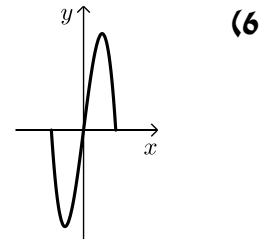
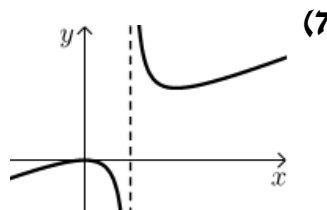
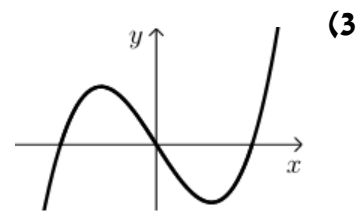
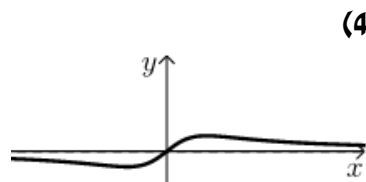
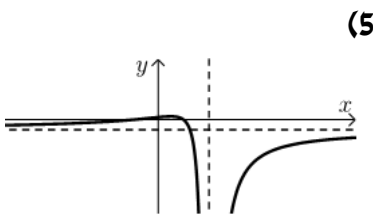
ג. עולה:  $-\frac{b}{\sqrt{2}} < x < \frac{b}{\sqrt{2}}$  , יורדת:  $\frac{b}{\sqrt{2}} < x < b$  ,  $-b < x < -\frac{b}{\sqrt{2}}$

ד.  $(b, 0)$  ,  $(-b, 0)$  ,  $(0, 0)$

(7) א.  $m = 0$  ב.  $x \neq \frac{4}{a}$  ב. ii.  $\max(0, 0)$  ,  $\min\left(\frac{8}{a}, \frac{16}{a^2}\right)$

ב. iii.  $x = \frac{4}{a}$  ד.  $a = 2$  ה.  $0 < k < 4$

**סקיצות לשאלות:**



## פונקציות ללא תבנית מפורשת:

### סיכום כללי:

#### הגדרת פונקציה:

- פונקציה  $f$  היא התאמה בין ערך  $x$  לערך  $y$  ומסומנת באופן הבא:  $f: x \rightarrow y$ .
- כך שלכל  $x$  מתאים ערך אחד בלבד של  $y$ . סימון אחר:  $y = f(x)$ .
- הנגזרת של פונקציה  $f(x)$  מסומנת  $f'(x)$ .

#### כללי הגזירה לפי כלל השרשרת:

- סימון הנגזרת:  $(f(x))' = f'(x)$
- גזירה של פונקציה בחזקה:  $(f^2(x))' = 2f(x)f'(x)$
- גזירה של הרכבת פונקציות:  $(f(g(x)))' = f'(g(x)) \cdot g'(x)$

#### שאלות:

- 1) הפונקציה  $f(x)$  מקיימת:  $f(1) = 3$  ו- $f'(1) = -2$ .  
חשב את ערכי הביטויים הבאים:

א.  $f(1) + 4$

ב.  $f'(1) + 4$

ג.  $\frac{f(1)+1}{f'(1)-1}$

ד.  $\sqrt{f(1)+f'(1)}$

- 2) נתונה פונקציה  $f$  המקיימת:  $f(4) = 0$  ו- $f'(4) = 1$ .

מגדירים:  $g(x) = 2x + f(2x)$ .

חשב את  $g(2)$  ואת  $g'(2)$ .

- (3) נתונה פונקציה המקיימת:  $f(8) = -1$  ו- $f'(8) = 1$ .
- א. נתון:  $g(x) = x^2 \sqrt{f(4x) + f'(x+6)}$ . חשב את  $g(2)$ .
- ב. נתון:  $h(x) = \frac{f(x+2) + x + 2}{f'(14-x) - 14 + x}$ . חשב את  $h(6)$ .
- (4) נתונה פונקציה המקיימת:  $f(9) = -4$ ,  $f'(9) = 3$ .
- מגדירים:  $g(x) = f^2(3x) + f'(x^2)$ . חשב את  $g(3)$ .
- (5) פונקציה  $f$  מקיימת:  $f(4) = 2$ ,  $f'(4) = 1$ .
- מגדירים:  $g(x) = f^2(x) + f(x) + x$ .
- חשב את  $g(4)$  ואת  $g'(4)$ .
- (6) פונקציה  $f$  מקיימת:  $f(1) = -3$ ,  $f'(1) = 3$ . מגדירים:  $g(x) = \frac{x \cdot f(x)}{x + f(x)}$ .
- חשב את  $g(1)$  ואת  $g'(1)$ .
- (7) פונקציה  $f$  מקיימת:  $f(-2) = 6$ ,  $f'(-2) = 2$ . מגדירים:  $g(x) = \sqrt{f^2(x) + 1}$ .
- חשב את  $g(-2)$  ואת  $g'(-2)$ .
- (8) פונקציה  $f$  מקיימת:  $f\left(\frac{1}{2}\right) = 3$ ,  $f'\left(\frac{1}{2}\right) = \frac{4}{3}$ . מגדירים:  $g(x) = 3x \cdot f(2x)$ .
- חשב את  $g\left(\frac{1}{4}\right)$  ואת  $g'\left(\frac{1}{4}\right)$ .
- (9) פונקציה  $f$  מקיימת:  $f(6) = \frac{2}{3}$ ,  $f'(6) = -\frac{3}{2}$ . מגדירים:  $g(x) = \frac{x+3+f(x+3)}{f(2x)+3}$ .
- חשב את  $g(3)$  ואת  $g'(3)$ .

**(10)** נתונה פונקציה המקיימת:  $f(8) = -3$ . מגדירים:  $g(x) = \frac{f(4x)+1}{f(x+6)+2}$ .

א. חשב את  $g(2)$ .

ב. חשב את  $f'(8)$  אם ידוע כי:  $g'(2) = 1$ .

ג. חשב את  $f'(8)$  אם ידוע כי:  $g'(2) = (f'(8))^2$  וכי  $f'(8) < 0$ .

**(11)** נתונה פונקציה המקיימת:  $f(3) = -2$ .

מגדירים:  $g(x) = \frac{x^2 \cdot f(x-2)}{f(2x-7)}$  וידוע כי  $g'(5) = -15$ .

חשב את  $g(5)$  ואת  $f'(3)$ .

**(12)** נתונה פונקציה שמקיימת:  $f(4) = \frac{1}{2}$ .

מגדירים:  $g(x) = x^2 \cdot f(x^2) + f'^2(x^2)$ .

א. הבע את  $g'(x)$  באמצעות  $f$ .

ב. חשב את  $g(-2)$  ואת  $g(2)$  אם ידוע כי  $f'(4) = 1$ .

ג. חשב את  $f'(4)$  אם ידוע כי  $g'(2) = 11$  ו-  $f''(4) = \frac{1}{4}$ .

## תשובות סופיות:

- (1) א. 7      ב. 2      ג.  $-\frac{4}{3}$       ד. 1
- (2)  $g(2) = 4, g'(2) = 4$
- (3) א.  $g(2) = 0$       ב.  $h(6) = -1$
- (4)  $g(3) = 19$
- (5)  $g(4) = 10, g'(4) = 6$
- (6)  $g(1) = 1.5, g'(1) = 3$
- (7)  $g(-2) = \sqrt{37}, g'(2) = \frac{12}{\sqrt{37}}$
- (8)  $g\left(\frac{1}{4}\right) = \frac{9}{4}, g'\left(\frac{1}{4}\right) = 11$
- (9)  $g(3) = 1\frac{9}{11}, g'(3) = \frac{327}{242} = 1.351$
- (10) א.  $g(2) = 2$       ב.  $f'(8) = -\frac{1}{2}$       ג.  $f'(8) = -2$
- (11)  $g(5) = 25, f'(3) = -2$
- (12) א.  $g'(x) = 2xf(x^2) + 2x^3f'(x^2) + 4xf'(x^2)f''(x^2)$
- ב.  $g(2) = 3, g'(-2) = 3$       ג.  $f'(4) = \frac{1}{2}$

# מכינה למבחן פטור (חדוא 0)

פרק 16 - חשבון דיפרנציאלי - חקירת פונקציות טריגונומטריות

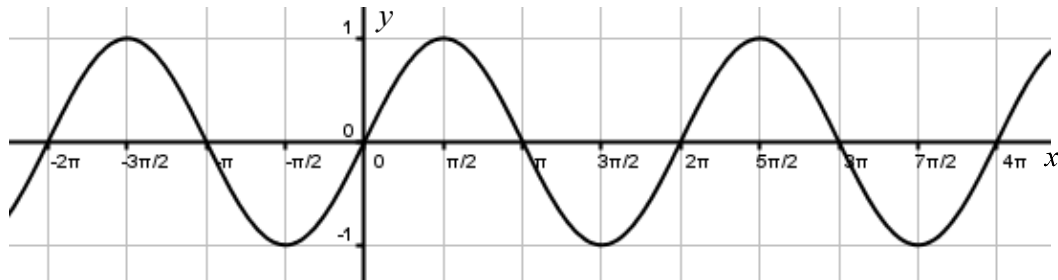
תוכן העניינים

299	1. הגדרות כלליות
301	2. גזירה של פונקציות טריגונומטריות
303	3. שאלות עם משיקים
305	4. מציאת תחום ההגדרה של פונקציות טריגונומטריות
306	5. מציאת נקודות קיצון
307	6. מציאת אסימפטוטות המקבילות לצירים
308	7. מציאת נקודות פיתול ותחומי קעירות
309	8. חקירת פונקציה טריגונומטרית

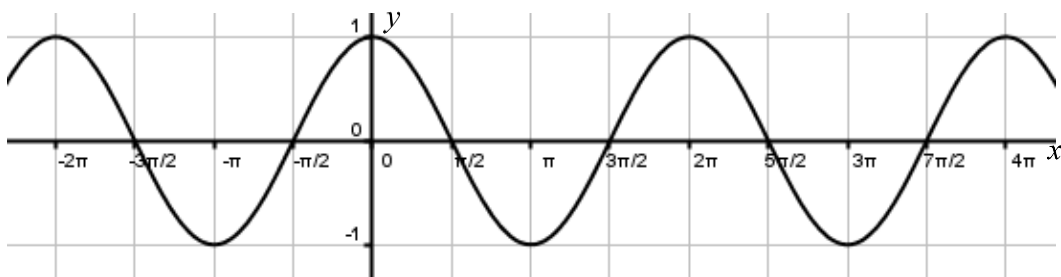
## הגדרות כלליות:

### סיכום כללי:

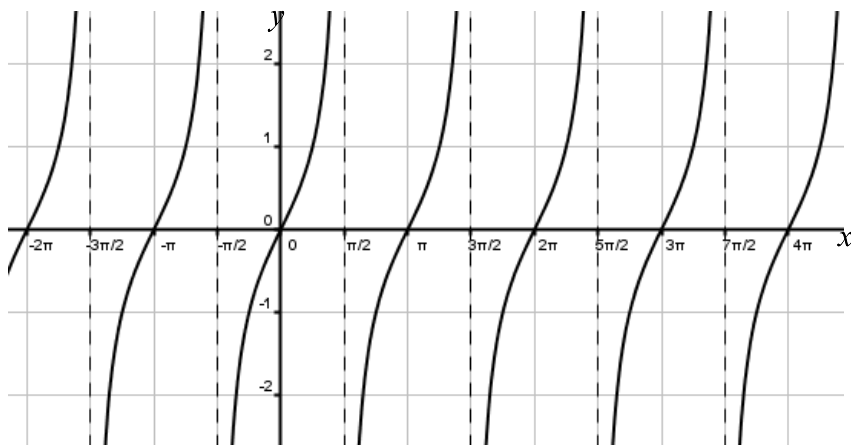
תיאור גרפי של פונקציית הסינוס  $y = \sin x$ :



תיאור גרפי של פונקציית הקוסינוס  $y = \cos x$ :



תיאור גרפי של פונקציית הטנגנס  $y = \tan x$ :



**הנגזרות הטריגונומטריות היסודיות:**

הנגזרת	הפונקציה
$y' = \cos x$	$y = \sin x$
$y' = -\sin x$	$y = \cos x$
$y' = \frac{1}{\cos^2 x}$	$y = \tan x$
$y' = -\frac{1}{\sin^2 x}$	$y = \cot x$

**זוגיות של פונקציות:**

- פונקציה  $f(x)$  תקרא זוגית אם היא מקיימת את התכונה הבאה:  $f(x) = f(-x)$ .
- פונקציה  $f(x)$  תקרא אי-זוגית אם היא מקיימת את התכונה הבאה:  $f(x) = -f(-x)$ .
- פונקציה אשר אינה מקיימת אף אחת מהתכונות הנ"ל אינה זוגית ואינה אי-זוגית.

**מחזוריות של פונקציות:**

(1) פונקציה  $f(x)$  תיקרא מחזורית במחזור  $T$  אם היא מקיימת:  $f(x+T) = f(x)$  לכל  $x$  בתחום הגדרתה.

(2) מחזור של פונקציות טריגונומטריות:

- הפונקציה  $f(x) = \sin x$  מחזורית במחזור  $T = 2\pi$  שכן:  $\sin(x+2\pi) = \sin x$ .
- הפונקציה  $f(x) = \cos x$  מחזורית במחזור  $T = 2\pi$  שכן:  $\cos(x+2\pi) = \cos x$ .
- הפונקציה  $f(x) = \tan x$  מחזורית במחזור  $T = \pi$  שכן:  $\tan(x+\pi) = \tan x$ .
- הפונקציה  $f(x) = \cot x$  מחזורית במחזור  $T = \pi$  שכן:  $\cot(x+\pi) = \cot x$ .

## גזירה של פונקציות טריגונומטריות:

### שאלות:

(1) גזור את הפונקציות הבאות:

א.  $f(x) = \sin x + 3 \cos x + x$

ג.  $f(x) = \frac{\sin x}{1 + \sin x}$

ב.  $f(x) = 2x \sin x + 4 \tan x$

(2) גזור את הפונקציות הבאות:

א.  $f(x) = \sin 3x + 2 \cos 5x$

ב.  $f(x) = \frac{\cos 2x}{1 + \sin 2x}$

(3) גזור את הפונקציות הבאות:

א.  $f(x) = \sin^3 x$

ג.  $f(x) = \sin^2 x$

ה.  $f(x) = \cos^2 2x$

ב.  $f(x) = 2 \cos^4 x$

ד.  $f(x) = \sin^3 2x$

ו.  $f(x) = \tan^2 4x$

(4) גזור את הפונקציות הבאות:

א.  $f(x) = \sqrt{\sin 3x}$

ב.  $f(x) = \frac{\sin 2x}{\sqrt{\cos 2x}}$

(5) גזור את הפונקציות הבאות:

א.  $f(x) = \sin^2 x - \cos^2 x$

ג.  $f(x) = \sin^4 x + \cos^4 x$

ב.  $f(x) = \sin^4 2x - \cos^4 2x$

**תשובות סופיות:**

$$\frac{\cos x}{(1 + \sin x)^2} \cdot \lambda \quad 2 \sin x + 2x \cos x + \frac{4}{\cos^2 x} \cdot \beta \quad \cos x - 3 \sin x + 1 \cdot \aleph \quad (1)$$

$$\cdot -\frac{2}{1 + \sin 2x} \cdot \beta \quad 3 \cos 3x - 10 \sin 5x \cdot \aleph \quad (2)$$

$$\sin 2x \cdot \lambda \quad -8 \cos^3 x \sin x \cdot \beta \quad 3 \sin^2 x \cdot \cos x \cdot \aleph \quad (3)$$

$$\cdot \frac{8 \tan 4x}{\cos^2 4x} \cdot \lambda \quad -2 \sin 4x \cdot \eta \quad 6 \sin^2 2x \cos 2x \cdot \delta$$

$$\cdot \frac{\cos^2 2x + 1}{\cos 2x \sqrt{\cos 2x}} \cdot \beta \quad \frac{3 \cos 3x}{2 \sqrt{\sin 3x}} \cdot \aleph \quad (4)$$

$$\cdot -\sin 4x \cdot \lambda \quad 4 \sin 4x \cdot \beta \quad 2 \sin 2x \cdot \aleph \quad (5)$$

## שאלות עם משיקים:

### שאלות:

(6) מצא את משוואת המשיק לפונקציה:  $f(x) = \cos x$  בנקודה  $A\left(\frac{\pi}{6}, \frac{\sqrt{3}}{2}\right)$ .

(7) מצא את משוואת המשיק לפונקציה:  $f(x) = \sin 2x$  בנקודה שבה  $x = \frac{\pi}{2}$ .

(8) מצא את משוואת המשיק לפונקציה:  $f(x) = \tan 3x$  בנקודה שבה  $x = \frac{\pi}{9}$ .

(9) מצא את משוואות המשיקים לפונקציה:  $f(x) = 4\sin^2 x$  בנקודות החיתוך של הפונקציה עם הישר  $y = 1$  בתחום  $[0, \pi]$ .

(10) שיפוע המשיק לפונקציה:  $f(x) = \sqrt{\sin x + a}$ ,  $a$  (פרמטר) בנקודה שבה  $y = 1$

בתחום  $\left[0, \frac{\pi}{2}\right]$  הוא  $\frac{\sqrt{3}}{4}$ .

מצא את ערך הפרמטר  $a$ .

(11) נתונה הפונקציה:  $f(x) = a\sin^2 x - 5\sin x + ax$ ,  $a$  (פרמטר) בתחום:  $0 \leq x \leq \pi$ .

ידוע כי הישר:  $y = ax - 2$  חותך את גרף הפונקציה בנקודה שבה  $x = \frac{\pi}{6}$ .

א. מצא את  $a$  וכתוב את הפונקציה  $f(x)$ .

ב. מצא נקודה על גרף הפונקציה בתחום הנתון שבה שיפוע המשיק הוא:  $m = 2$ .

ג. האם קיימות נקודות נוספות בתחום הנתון ששיפוע המשיק דרכן הוא 2? נמק את תשובתך.

ד. כתוב את משוואת המשיק העובר דרך הנקודה שמצאת.

**(12)** נתונות הפונקציות הבאות:  $f(x) = x^2 + \cos^2 x$ ,  $g(x) = x^2 + \sin^2 x$ .

א. הוכח כי ההפרש:  $f(x) - g(x)$  שווה ל- $\cos 2x$ .

ב. מצא את נקודות החיתוך של הפונקציות בתחום:  $-\pi < x < \pi$ .

ג. ישר  $x = t$ ,  $(0 < t < 1)$  חותך את הגרפים בנקודות A ו-B ומהן מעבירים משיקים

לפונקציות. ידוע כי ההפרש בין שיפוע המשיק של גרף הפונקציה  $g(x)$  לשיפוע

המשיק של גרף הפונקציה  $f(x)$  הוא 1.

מצא את כל הערכים האפשריים עבור  $t$ .

### תשובות סופיות:

$$y = -\frac{1}{2}x + \frac{\pi}{12} + \frac{\sqrt{3}}{2} \quad (6)$$

$$y = -2x + \pi \quad (7)$$

$$y = 12x - \frac{4\pi}{3} + \sqrt{3} \quad (8)$$

$$y = 2\sqrt{3}x - \frac{\pi\sqrt{3}}{3} + 1, y = -2\sqrt{3}x + \frac{5\pi\sqrt{3}}{3} + 1 \quad (9)$$

$$a = \frac{1}{2} \quad (10)$$

$$f(x) = 2\sin^2 x - 5\sin x + 2x, a = 2. \text{ א. } \left(\frac{\pi}{2}, \pi - 3\right). \text{ ב. } \left(\frac{\pi}{2}, \pi - 3\right). \text{ ג. לא. } \tau. y = 2x - 3. \quad (11)$$

$$\left(-\frac{3\pi}{4}, 6.05\right), \left(-\frac{\pi}{4}, 1.11\right), \left(\frac{3\pi}{4}, 6.05\right), \left(\frac{\pi}{4}, 1.11\right). \text{ ב. } t = \frac{\pi}{12}. \text{ ג. } \quad (12)$$

## מציאת תחום ההגדרה של פונקציות טריגונומטריות:

שאלות:

13 מצא את תחום ההגדרה של הפונקציות הבאות בתחום הנתון:

ב.  $f(x) = \frac{1}{\sin x - \cos x}$ ,  $[-\pi, \pi]$

א.  $f(x) = \frac{\sin x}{1 + \cos 2x}$ ,  $[0, 2\pi]$

ג.  $f(x) = \tan x$ ,  $[0, 2\pi]$

תשובות סופיות:

ב.  $-\pi \leq x \leq \pi$  וגם  $x \neq \frac{\pi}{4}, -\frac{3\pi}{4}$

13 א.  $0 \leq x \leq 2\pi$  וגם  $x \neq \frac{\pi}{2}, \frac{3\pi}{2}$

ג.  $0 \leq x \leq 2\pi$  וגם  $x \neq \frac{\pi}{2}, \frac{3\pi}{2}$

## מציאת נקודות קיצון:

### שאלות:

14 מצא את נקודות הקיצון של הפונקציה:  $f(x) = \sin x + \cos x$  בתחום:  $[0, 2\pi]$ .

15 מצא את נקודות הקיצון של הפונקציה:  $f(x) = \sin x - \frac{x}{2}$  בתחום:  $[0, 2\pi]$ .

16 מצא את נקודות הקיצון המוחלטות של הפונקציה:  $f(x) = \frac{\sin x + 1}{\sin x - 1}$  בתחום:  $[0, 2\pi]$ .

17 מצא את נקודות הקיצון המוחלטות של הפונקציה:  $f(x) = \frac{1}{5} \sin^5 x - \frac{1}{3} \sin^3 x - 2 \sin x$  בתחום:  $[0, 1.5\pi]$ .

18 לפונקציה:  $f(x) = a \sin x + b \sin^3 x$  (פרמטרים  $a, b$ ) יש נקודת קיצון ששיעורה  $\left(\frac{7\pi}{6}, -1\right)$ . מצא את ערכי הפרמטרים  $a$  ו- $b$ .

### תשובות סופיות:

14 קצה  $\max(2\pi, 1)$ ,  $\min\left(\frac{5}{4}\pi, -\sqrt{2}\right)$ ,  $\max\left(\frac{\pi}{4}, \sqrt{2}\right)$ , קצה  $\min(0, 1)$

15 קצה  $\max(2\pi, -\pi)$ ,  $\min\left(\frac{5}{3}\pi, -\frac{\sqrt{3}}{2} - \frac{5}{6}\pi\right)$ ,  $\max\left(\frac{\pi}{3}, \frac{\sqrt{3}}{2} - \frac{\pi}{6}\right)$ , קצה  $\min(0, 0)$

16 קצה  $\min(2\pi, -1)$ , קצה  $(0, -1)$ , קצה  $\max\left(\frac{3}{2}\pi, 0\right)$  מוחלט.

17  $\max\left(\frac{3}{2}\pi, 2\frac{2}{15}\right)$ ,  $\min\left(\frac{\pi}{2}, -2\frac{2}{15}\right)$

18  $b = -4$ ,  $a = 3$

## מציאת אסימפטוטות המקבילות לצירים:

שאלות:

(19) מצא את האסימפטוטות האנכיות לפונקציה:  $f(x) = \frac{1}{\sin 3x}$  בתחום:  $[0, \pi]$ .

(20) מצא את האסימפטוטות האנכיות לפונקציה:  $f(x) = \frac{1}{\sin x} - \frac{1}{\cos x}$  בתחום:  $[0, \pi]$ .

(21) מצא את האסימפטוטות האנכיות לפונקציה:  $f(x) = \tan x$  בתחום:  $[-\pi, \pi]$ .

תשובות סופיות:

(19)  $x = 0, x = \frac{\pi}{3}, x = \frac{2\pi}{3}, x = \pi$

(20)  $x = 0, x = \frac{\pi}{2}, x = \pi$

(21)  $x = \frac{\pi}{2}, x = -\frac{\pi}{2}$

## מציאת נקודות פיתול ותחומי קעירות:

שאלות:

**(22)** מצא את נקודות הפיתול ואת תחומי הקעירות כלפי מעלה ומטה של הפונקציה  $f(x) = \sin^2 x - 2\sin x$  בתחום:  $[0, 2\pi]$ .

תשובות סופיות:

**(22)** נקודות פיתול:  $\left(\frac{7}{6}\pi, 1\frac{1}{4}\right), \left(\frac{11}{6}\pi, 1\frac{1}{4}\right)$ , קעור מעלה:  $0 < x < \frac{7}{6}\pi, \frac{11}{6}\pi < x < 2\pi$   
 קעור מטה:  $\frac{7}{6}\pi < x < \frac{11}{6}\pi$

## חקירת פונקציה טריגונומטרית:

### שאלות:

**(23)** נתונה הפונקציה:  $f(x) = x + 2\cos x$  בתחום  $[0, 2\pi]$ .

חקור לפי הסעיפים הבאים:

- מציאת תחום ההגדרה של הפונקציה.
- מציאת נקודות הקיצון של גרף הפונקציה.
- תחומי עלייה וירידה של גרף הפונקציה.
- מציאת נקודת החיתוך של גרף הפונקציה עם ציר ה- $y$ .
- מציאת אסימפטוטות המקבילות לצירים.
- מציאת נקודות פיתול.
- מציאת תחומי הקעירות כלפי מעלה וכלפי מטה של הפונקציה.
- סרטוט סקיצה של גרף הפונקציה.

**(24)** נתונה הפונקציה:  $f(x) = \frac{1}{\sin x} + \frac{1}{\cos x}$  בתחום  $[0, \pi]$ .

חקור לפי הסעיפים הבאים:

- מציאת תחום ההגדרה של הפונקציה.
- מציאת נקודות הקיצון של גרף הפונקציה.
- תחומי עלייה וירידה של גרף הפונקציה.
- מציאת נקודת החיתוך של גרף הפונקציה עם ציר ה- $x$  בתחום הנתון.
- מציאת אסימפטוטות המקבילות לצירים.
- סרטוט סקיצה של גרף הפונקציה.

**(25)** נתונה הפונקציה:  $f(x) = 4\sin 2x - 2$  בתחום  $0 \leq x \leq \pi$ .

- מצא את נקודות החיתוך של הפונקציה עם הצירים בתחום הנתון.
- מצא את נקודות הקיצון של הפונקציה בתחום הנתון וקבע את סוגן.
- סרטוט סקיצה של גרף הפונקציה.
- מעבירים את הישר  $y = k$  היעזר בסקיצה ומצא לאילו ערכי  $k$  הישר יחתוך את גרף הפונקציה בשתי נקודות בדיוק.
- העבירו ישר המשיק לפונקציה בנקודת המקסימום המוחלט שלה. כמו כן העבירו מנקודה זו אנך לציר  $x$ . מצא את שטח המלבן הנוצר על ידי הצירים, המשיק והאנך.

**(26)** נתונה הפונקציה:  $f(x) = \cos^2 x - \cos x - 2$  בתחום:  $0 \leq x \leq 2\pi$ .

- מצא את נקודות החיתוך של גרף הפונקציה עם הצירים.
- מצא את נקודות הקיצון של גרף הפונקציה וקבע את סוגן.
- כתוב את תחומי העלייה והירידה של הפונקציה.
- סרטט סקיצה של גרף הפונקציה.

**(27)** נתונה הפונקציה:  $f(x) = \cos x + \frac{1}{m} \sin mx$ ,  $1 < m < 3$ , ( $m$  פרמטר).

הנגזרת של הפונקציה מתאפסת כאשר:  $x = -\frac{\pi}{2}$ .

- מצא את ערך הפרמטר  $m$ .
- האם הנקודה שבה:  $x = -\frac{\pi}{2}$  היא נקודת קיצון? אם כן קבע את סוגה. אם לא נמק מדוע.
- מצא כמה נקודות קיצון מקומיות יש לגרף הפונקציה בתחום:  $0 < x < 2\pi$ .
- מצא את נקודות החיתוך של גרף הפונקציה עם ציר ה- $x$  בתחום הנתון.

**(28)** נתונה הפונקציה הבאה:  $y = \cos x \cdot (\sin x + 1)$  בתחום:  $0 \leq x \leq 1.5\pi$ .

- מצא את נקודות החיתוך של גרף הפונקציה עם הצירים.
- מצא את נקודות הקיצון של גרף הפונקציה.
- סרטט סקיצה של גרף הפונקציה.
- כמה פתרונות יש למשוואה:  $\cos x \cdot (\sin x + 1) = 1$  בתחום הנתון?

**(29)** נתונה הפונקציה:  $f(x) = \sin^2 x + \cos x - 1$ .

- מצא בתחום  $[0, \pi]$  את נקודות החיתוך עם הצירים של הפונקציה ואת נקודות הקיצון שלה.
- הוכח שהפונקציה זוגית.
- שרטט את הפונקציה בתחום  $[-\pi, \pi]$ .

**(30)** נתונה הפונקציה:  $f(x) = 4x - 3 \tan x$  בתחום  $\left[-\frac{\pi}{6}, \frac{2\pi}{3}\right]$ .

חקור את הפונקציה על פי הסעיפים הבאים:

- מציאת תחום ההגדרה של הפונקציה.
- מציאת נקודות הקיצון של גרף הפונקציה.
- תחומי עלייה וירידה של גרף הפונקציה.
- מציאת נקודת החיתוך של גרף הפונקציה עם ציר ה- $y$ .
- מציאת אסימפטוטות אנכיות.
- מציאת נקודות פיתול.
- מציאת תחומי קעירות כלפי מעלה ומטה.
- סרטוט סקיצה של גרף הפונקציה.

**(31)** נתונה הפונקציה:  $f(x) = \tan 2x - 8 \sin 2x$  בתחום:  $-0.25\pi < x < 0.25\pi$ .

- מצא את נקודות החיתוך של גרף הפונקציה עם הצירים בתחום הנתון.
- כתוב את האסימפטוטות האנכיות של גרף הפונקציה.
- מצא את נקודות הקיצון של גרף הפונקציה בתחום הנתון.
- סרטט סקיצה של גרף הפונקציה בתחום הנתון.

**(32)** נתונה הפונקציה:  $f(x) = \tan(x^2 - 4x)$  בתחום  $[0, 4]$ .

חקור את הפונקציה על פי הסעיפים הבאים:

- מציאת תחום ההגדרה של הפונקציה.
- מציאת נקודות הקיצון של גרף הפונקציה.
- סרטוט סקיצה של גרף הפונקציה.

**(33)** נתונה הפונקציה:  $f(x) = x \cos x - x$  בתחום:  $-3\pi \leq x \leq 3\pi$ .

- מצא את נקודות החיתוך של גרף הפונקציה עם ציר ה- $x$ .
- ענה על הסעיפים הבאים:

i. הראה כי נקודות החיתוך של גרף הפונקציה עם ציר ה- $x$  הנגזרת של הפונקציה מתאפסת.

- ii. ידוע גם כי:  $f'(-3.67) = 0$ ,  $f'(3.67) = 0$  וכי אין נקודות נוספות בתחום הנתון שבהן הנגזרת מתאפסת. קבע אלו נקודות, מבין נקודות החיתוך שמצאת, הן נקודות קיצון ואלו אינן נקודות קיצון. מצא את סוג הקיצון בכל מקרה.

**(34)** נתונה הפונקציה:  $y = (\cos x + k)^2$ , פרמטר, בתחום:  $0 \leq x \leq 2\pi$ .

הפונקציה חותכת את ציר ה- $x$  בנקודה שבה  $x = \frac{2\pi}{3}$ .

- מצא את  $k$  וכתוב את הפונקציה.
- מצא את נקודת המקסימום שאיננה מוחלטת בתחום הנתון.
- האם יש לגרף הפונקציה נקודות מינימום שאינן מוחלטות? אם כן מהן?

**(35)** נתונה הפונקציה:  $f(x) = m \sin x + k \cos^2 x$ , (פרמטר  $m$ ).

מעבירים משיק לגרף הפונקציה בנקודה שבה  $x = \pi$  שמשוואתו:  $y = -6x + 6\pi + \sqrt{7}$ .

- מצא את ערכי הפרמטרים  $k$  ו- $m$ .
- מצא את נקודות הקיצון בתחום:  $-0.5\pi \leq x \leq 1.5\pi$ .
- סרטט סקיצה של גרף הפונקציה וקבע עפ"י הסקיצה בכמה נקודות גרף הפונקציה חותך את ציר ה- $x$  בתחום הנ"ל.

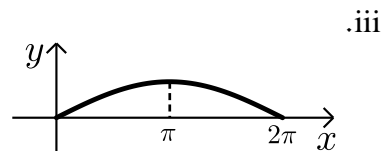
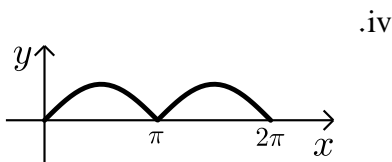
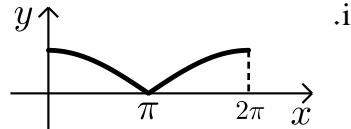
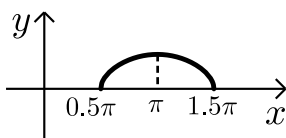
**(36)** נתונה הפונקציה:  $f(x) = \tan x + kx$ , (פרמטר  $k$ ), בתחום:  $0 \leq x \leq \pi$ .

- מצא את האסימפטוטה האנכית של הפונקציה בתחום הנתון.
- הפונקציה:  $g(x) = \tan^2 x + kx$  חותכת את הפונקציה  $f(x)$  בשתי נקודות החיתוך שלה עם ציר ה- $x$  בתחום הנתון.
- מצא את ערך הפרמטר  $k$ , ( $k \neq 0$ ).
- מצא את נקודות הקיצון של הפונקציה  $f(x)$  בתחום הנתון וקבע את סוגן.
- סרטט סקיצה של גרף הפונקציה  $f(x)$ .

37) לפניך הפונקציות הבאות:  $f(x) = \sqrt{-\cos x}$ ,  $g(x) = \sqrt{\cos x + 1}$ .

הפונקציה  $f(x)$  מוגדרת בתחום  $0.5\pi \leq x \leq 1.5\pi$  והפונקציה  $g(x)$  מוגדרת בתחום  $0 \leq x \leq 2\pi$ .

- האם הגרפים חותכים את ציר ה- $x$  בתחום הנתון? הראה חישוב מתאים.
- האם הגרפים חותכים זה את זה בתחום הנתון? אם כן מצא את נקודות החיתוך.
- מצא את נקודת הקיצון של הפונקציה  $f(x)$  בתחום הנתון וקבע את סוגה.
- לפניך ארבעה איורים: i, ii, iii, iv. קבע על סמך הסעיפים הקודמים איזה איור מתאר את הגרף של  $f(x)$  ואיזה מתאר את הגרף של  $g(x)$ . נמק.



**תשובות סופיות:**

(23) א.  $0 \leq x \leq 2\pi$ .

ב.  $\max(2\pi, 2\pi + 2)$  קצה,  $\min\left(\frac{\pi}{6}, \frac{\pi}{6} + \sqrt{3}\right)$ ,  $\min\left(\frac{5}{6}\pi, \frac{5}{6}\pi - \sqrt{3}\right)$  קצה,  $\min(0, 2)$  קצה.

ג. תחומי עלייה:  $\frac{5\pi}{6} < x < 2\pi$  או  $0 < x < \frac{\pi}{6}$ , תחומי ירידה:  $\frac{\pi}{6} < x < \frac{5}{6}\pi$ .

ד.  $(0, 2)$ . ה. אין. ו.  $\left(\frac{\pi}{2}, \frac{\pi}{2}\right), \left(\frac{3\pi}{2}, \frac{3\pi}{2}\right)$ .

ז. קעירות כלפי מעלה:  $\frac{\pi}{2} < x < \frac{3}{2}\pi$ , קעירות כלפי מטה:  $\frac{3\pi}{2} < x < 2\pi$  או  $0 < x < \frac{\pi}{2}$ .

(24) א.  $0 < x < \frac{\pi}{2}; \frac{\pi}{2} < x < \pi$ . ב.  $\min\left(\frac{\pi}{4}, 2\sqrt{2}\right)$ .

ג. תחומי עלייה:  $\frac{\pi}{2} < x < \pi, \frac{\pi}{4} < x < \frac{\pi}{2}$ , תחומי ירידה:  $0 < x < \frac{\pi}{4}$ .

ד.  $\left(\frac{3}{4}\pi, 0\right)$ . ה. אנכית:  $x = \pi, x = \frac{\pi}{2}, x = 0$ .

(25) א.  $(0, -2), \left(\frac{\pi}{12}, 0\right), \left(\frac{5}{12}\pi, 0\right)$ .

ב.  $\min(0, -2), \max\left(\frac{\pi}{4}, 2\right), \min\left(\frac{3\pi}{4}, -6\right), \max(\pi, -2)$ .

ד.  $-6 < k < 2$  וגם  $k \neq -2$ . ה.  $\frac{\pi}{2}$ .

(26) א.  $(\pi, 0), (0, -2)$ .

ב.  $\max(0, -2), \min\left(\frac{\pi}{3}, -2.25\right), \max(\pi, 0), \min\left(1\frac{2}{3}\pi, -2.25\right), \max(2\pi, -2)$ .

ג. עולה:  $\frac{\pi}{3} < x < \pi, 1\frac{2}{3}\pi < x < 2\pi$ , יורדת:  $\pi < x < 1\frac{2}{3}\pi, 0 < x < \frac{\pi}{3}$ .

(27) א.  $m = 2$ . ב. נקודת פיתול. ג. 2 נקודות.

ד.  $(0.5\pi, 0), (1.5\pi, 0)$ .

(28) א.  $(0, 1), \left(\frac{\pi}{2}, 0\right), \left(\frac{3\pi}{2}, 0\right)$ . ב.  $(0, 1), \left(\frac{\pi}{6}, 1.29\right), \left(\frac{5}{6}\pi, -1.29\right), (1.5\pi, 0)$ .

ד. 2 פתרונות.

(29) א. חיתוך:  $(0, 0), \left(\frac{\pi}{2}, 0\right)$ , קיצון:  $\min(\pi, -2)$ , קצה:  $\min(0, 0), \max\left(\frac{\pi}{3}, \frac{1}{4}\right)$ .

$$(30) \text{ א. } -\frac{\pi}{6} \leq x \leq \frac{2}{3}\pi \text{ וגם } x \neq \frac{\pi}{2}$$

$$\text{ב. קצה } \min\left(\frac{2}{3}\pi, 13.57\right), \max\left(\frac{\pi}{6}, 0.36\right), \text{ קצה } \min\left(-\frac{\pi}{6}, -0.36\right)$$

$$\text{ג. תחומי עלייה: } -\frac{\pi}{6} \leq x \leq \frac{\pi}{6}, \text{ תחומי ירידה: } \frac{\pi}{6} \leq x \leq \frac{2}{3}\pi \text{ וגם } x \neq \frac{\pi}{2}$$

$$\text{ד. } (0,0) \quad \text{ה. אנכית: } x = \frac{\pi}{2} \quad \text{ו. } (0,0)$$

$$\text{ז. קעירות כלפי מעלה: } \frac{\pi}{2} \leq x \leq \frac{2}{3}\pi \text{ או } -\frac{\pi}{6} \leq x \leq 0, \text{ קעירות כלפי מטה: } 0 < x < \frac{\pi}{2}$$

$$(31) \text{ א. } (0,0), (\pm 0.23\pi, 0) \quad \text{ב. } x = \pm 0.25\pi \quad \text{ג. } \min\left(\frac{\pi}{6}, -\sqrt{27}\right), \max\left(-\frac{\pi}{6}, \sqrt{27}\right)$$

$$(32) \text{ א. } 0 \leq x \leq 4 \text{ וגם } x \neq 0.44, x \neq 3.56$$

$$\text{ב. קצה } \max(0,0), \min(2, -1.16), \max(4,0)$$

$$(33) \text{ א. } (0,0), (2\pi,0), (-2\pi,0)$$

$$\text{ב. ii. } \min(-2\pi,0), \max(2\pi,0), (0,0) \text{ פיתול}$$

$$(34) \text{ א. } y = (\cos x + 0.5)^2, k = 0.5 \quad \text{ב. } (\pi, 0.25) \quad \text{ג. לא}$$

$$(35) \text{ א. } m = 6, k = \sqrt{7} \quad \text{ב. } (-0.5\pi, -6), (0.5\pi, 6), (1.5\pi, -6) \quad \text{ג. בשתי נקודות}$$

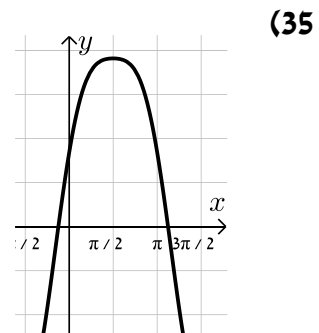
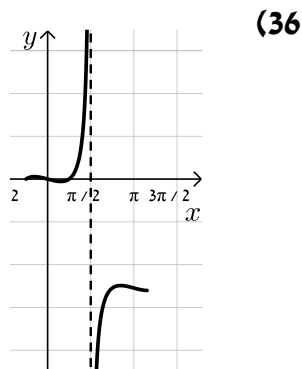
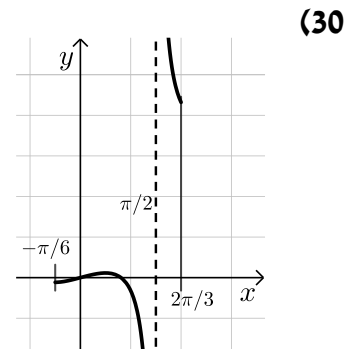
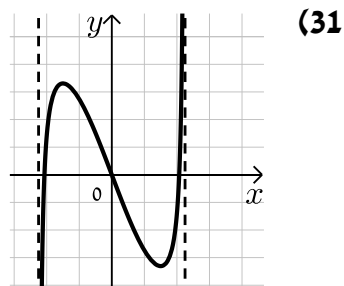
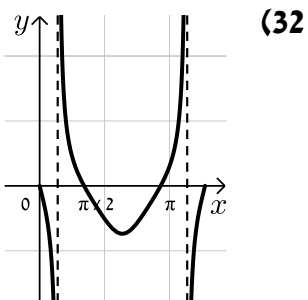
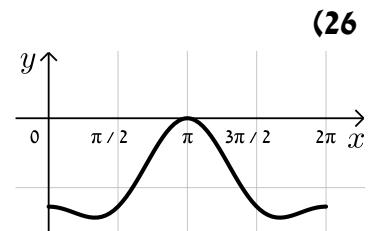
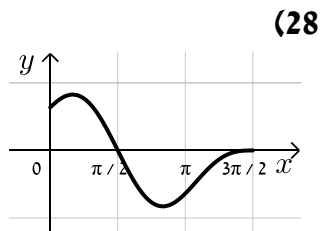
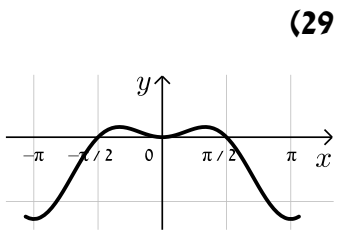
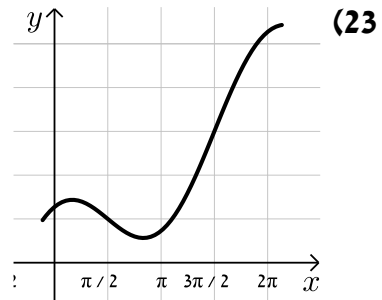
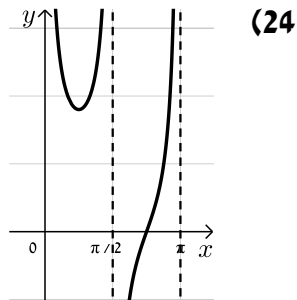
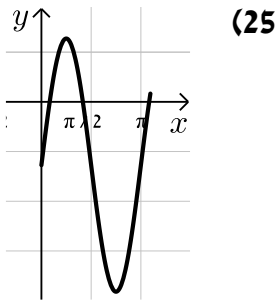
$$(36) \text{ א. } x = 0.5\pi \quad \text{ב. } k = -\frac{4}{\pi} \approx -1.27$$

$$\text{ג. } \max(0,0), \min(0.15\pi, -0.07), \max(0.84\pi, -3.9), \min(\pi, -4)$$

$$(37) \text{ א. כן. } f(x): (0.5\pi, 0), (1.5\pi, 0), g(x): (\pi, 0) \quad \text{ב. כן, } \left(\frac{2}{3}\pi, \frac{1}{\sqrt{2}}\right), \left(\frac{4}{3}\pi, \frac{1}{\sqrt{2}}\right)$$

$$\text{ג. } \max(0.5\pi, 0), \min(1.5\pi, 0), \max(\pi, 1) \quad \text{ד. איור I - } g(x), \text{ איור II - } f(x)$$

סקיצות לשאלות החקירה:



# מכינה למבחן פטור (חדוא 0)

פרק 17 - חשבון דיפרנציאלי - הקשר שבין גרף הפונקציה וגרף הנגזרת

תוכן העניינים

1. כללי ..... (ללא ספר)

# מכינה למבחן פטור (חדוא 0)

פרק 18 - חשבון דיפרנציאלי - בעיות קיצון

תוכן העניינים

317	1. בעיות קיצון יסודיות עם מספרים
319	2. בעיות קיצון בהנדסת המישור
323	3. בעיות קיצון בפונקציות וגרפים
327	4. בעיות קיצון בהנדסת המרחב
329	5. בעיות קיצון עם תשובה נתונה
330	6. בעיות קיצון שונות בהנדסת המישור
334	7. בעיות קיצון שונות בהנדסת המרחב
336	8. בעיות קיצון שונות בפונקציות וגרפים

## בעיות קיצון יסודיות עם מספרים:

### סיכום כללי:

#### שלבי עבודה:

- נגדיר את אחד הגדלים בשאלה כ- $x$ .
- נבטא את שאר הגדלים בשאלה באמצעות  $x$ .
- נבנה פונקציה שמבטאת את מה שרצינו שיהיה מינימלי/מקסימלי.
- נגזור את הפונקציה, נשווה לאפס ונחלץ ערך/ערכי ה- $x$ .
- נוודא שערך ה- $x$  מהסעיף הקודם הוא אכן מינימום/מקסימום באמצעות "  $y$  (או טבלה).
- ננסח את התשובה לשאלה המקורית.

### שאלות:

- (1) מבין כל זוגות המספרים שסכומם 14 מצא את הזוג שמכפלתו מקסימלית.
- (2) נתונים שלושה מספרים שסכומם 24. המספר הראשון שווה למספר השני. מצא מהם המספרים אם ידוע שמכפלתם מקסימלית.
- (3) מצא את המספר החיובי שאם נוסיף לו את המספר ההופכי לו הסכום המתקבל יהיה מינימלי.
- (4) נתונים שלושה מספרים שסכומם הוא 36. ידוע שמספר אחד זהה לשני.
  - א. מה צריכים להיות שלושת המספרים כדי שמכפלתם תהיה מקסימלית?
  - ב. כיצד תשתנה התוצאה אם מספר אחד יהיה גדול פי 2 מהשני במקום שווה לו?
  - ג. באיזה מקרה תהיה מכפלה גדולה יותר?
- (5)  $x$  ו- $y$  הם שני מספרים המקיימים:  $x + 6y = 60$ .
  - א. הבע את  $y$  באמצעות  $x$ .
  - ב. מה צריכים להיות המספרים  $x$  ו- $y$  כדי שמכפלת ריבועיהם תהיה מקסימלית?
  - ג. מהי המכפלה הנ"ל?

**תשובות סופיות:**

(1)  $.7, 7$

(2)  $.8, 8, 8$

(3)  $.1$

(4)  $12, 12, 12$  א. ב.  $8, 12, 16$  ג. מקרה א'.

(5) א.  $y = 10 - \frac{x}{6}$  ב.  $x = 30, y = 5$  ג.  $M = 22500$ .

## בעיות קיצון בהנדסת המישור:

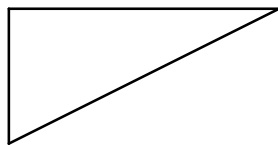
### שאלות:

6) מבין כל המשולשים שווי השוקיים שהיקפם 24 ס"מ מצא את אורך בסיסו של המשולש בעל השטח הגדול ביותר.

7) ענה על הסעיפים הבאים:

א. מבין כל המשולשים שווי השוקיים שהיקפם  $a$ , מצא את בסיסו של המשולש בעל השטח הגדול ביותר.

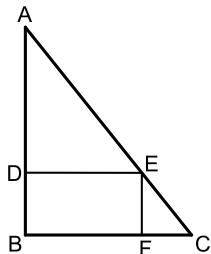
ב. הוכח: מבין כל המשולשים שווי השוקיים בעלי אותו היקף, המשולש בעל השטח הגדול ביותר הוא משולש שווה צלעות.



8) במשולש ישר זווית סכום אורכי הניצבים הוא 12 ס"מ.  
א. מה צריך להיות אורך כל ניצב, כדי שטח המשולש יהיה מקסימלי?

ב. מהו השטח המקסימלי?

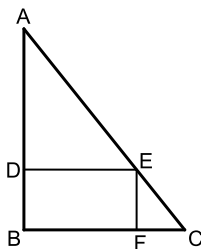
ג. מה יהיה אורך היתר במשולש במקרה זה?



9) במשולש ישר זווית  $ABC$  ( $\sphericalangle B = 90^\circ$ ) הנקודה  $E$  נמצאת על היתר  $AC$  כך שהמרובע  $EDBF$  הוא מלבן.

נתון:  $AB = 20$  ס"מ,  $BC = 16$  ס"מ.

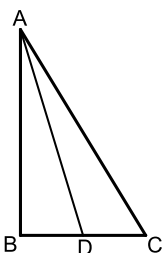
מצא את שטחו של המלבן בעל השטח הגדול ביותר.



10) במשולש ישר זווית  $ABC$  ( $\sphericalangle B = 90^\circ$ ) הנקודה  $E$  נמצאת על היתר  $AC$  כך שהמרובע  $EDBF$  הוא מלבן.

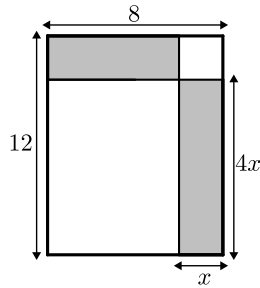
נתון:  $AB = a$ ,  $BC = b$ .

מצא את שטחו של המלבן בעל השטח הגדול ביותר.

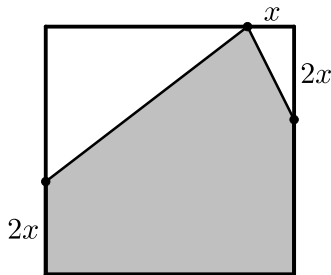


11) במשולש ישר הזווית  $ABC$  ( $\sphericalangle B = 90^\circ$ ),  $AD$  הוא תיכון לניצב  $BC$  ידוע כי סכום אורכי הניצבים הוא 20 ס"מ.

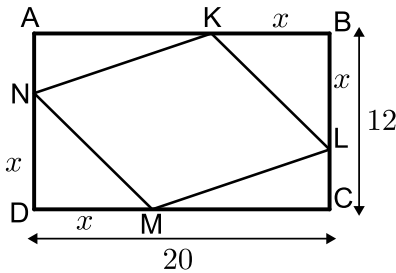
מצא מה צריכים להיות אורכי הניצבים עבורם אורך התיכון  $AD$  יהיה מינימלי.



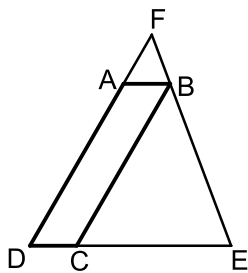
**12** נתון מלבן שאורכי צלעותיו הם 8 ס"מ ו-12 ס"מ כמתואר באיור. מקצים קטעים באורכים של  $x$  ו- $4x$  על צלעות המלבן כך שנוצרים המלבנים המסומנים. מצא את  $x$  עבורו סכום שטחי המלבנים הוא מינימלי.



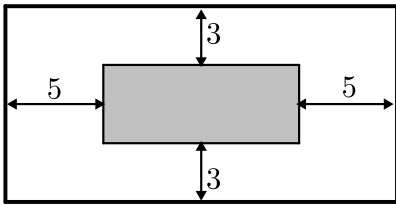
**13** נתון ריבוע בעל אורך צלע של 16 ס"מ. מקצים קטע שאורכו  $x$  על הצלע העליונה ושני קטעים שאורכם  $2x$  על הצלעות הצדדיות כמתואר באיור כך שנוצר המחומש המסומן. מצא מה צריך להיות ערכו של  $x$  עבורו שטח המחומש יהיה מקסימלי.



**14** הנקודות  $K, L, M, N$  מקצות קטעים שווים במלבן  $ABCD$  כך ש:  $BK = BL = DM = DN = x$ . צלעותיו של המלבן הן 20 ס"מ ו-12 ס"מ.  
 א. הבע באמצעות  $x$  את סכום שטחי המשולשים:  $\triangle AKN + \triangle KBL + \triangle CLM + \triangle DNM$   
 ב. מצא מה צריך להיות  $x$  כדי ששטח המרובע  $LKNM$  יהיה מקסימלי.  
 ג. מה הוא השטח של המרובע  $LKNM$  במקרה זה?



**15** המרובע  $ABCD$  הוא מקבילית. מהקדקוד  $B$  מעבירים את הצלע  $EF$  הנפגשת עם המשכי הצלעות  $AD$  ו- $DC$ . ידוע כי מידות המקבילית הן:  $AB = 2$  ס"מ,  $AD = 8$  ס"מ. מסמנים את אורך הצלע  $DE$  ב- $x$ .  
 א. הבע באמצעות  $x$  את אורך הצלע  $DF$ .  
 ב. מצא את  $x$  עבורו סכום הצלעות  $DE$  ו- $DF$  הוא מינימלי.  
 ג. מה הוא הסכום המינימלי?



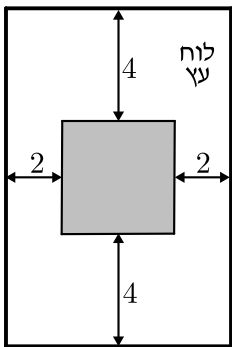
16) חיים הוא אחד מעובדי חברת "דפוס יהלום בע"מ". תפקידו של חיים הוא להדביק גלויות על משטחי קרטון בעלי שטח מינימלי כך שישארו רווחים של 3 ס"מ מקצוות הקרטון העליון והתחתון, ו-5 ס"מ מצדי הקרטון (ראה איור).

יום אחד קיבל חיים שיחת טלפון מלקוח אנונימי ששאל אותו את השאלה הבאה: "יש לי מגוון גדול של גלויות במידות שונות אשר שטחן זהה והוא 60 סמ"ר.

מה הן המידות של גלויה אשר שטח משטח הקרטון שלה יהיה מינימלי?"

א. עזור לחיים לענות ללקוח על שאלתו והראה דרך חישוב.

ב. מה יהיו מידות הקרטון עבור הגלויה המסוימת?

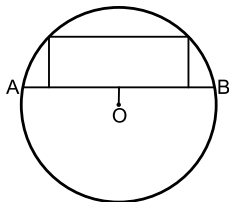


17) אלינה קיבלה משימה בשיעור מלאכה: יש להכין מסגרת לתמונה מלוח עץ ששטחו הכולל הוא 242 סמ"ר כך שעובי המסגרת בצדדים יהיה 2 ס"מ ובקצוות העליון והתחתון - 4 ס"מ (ראה איור).

כדי לבחור את מידות לוח העץ, אלינה צריכה לדעת את השטח המקסימלי שעליה לנסר עבור המקום לתמונה (השטח המסומן).

א. מה יהיו מידות לוח העץ שאלינה צריכה להזמין עבור המשימה?

ב. מה יהיה השטח המקסימלי לתמונה עבור המידות שאלינה בחרה?

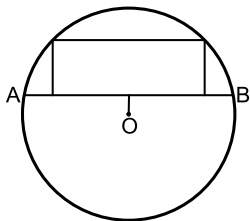


18) במעגל שמרכזו O ורדיוסו  $10\sqrt{5}$  ס"מ העבירו

מיתר AB שמרחקו ממרכז המעגל הוא 4 ס"מ.

במקטע שיוצר המיתר חסום מלבן כמתואר בשרטוט.

מצא את היקפו של המלבן בעל ההיקף הגדול ביותר.



19) במעגל שמרכזו O ורדיוסו R העבירו מיתר AB

שמרחקו ממרכז המעגל הוא a.

במקטע שיוצר המיתר חסום מלבן כמתואר בשרטוט.

מצא את היקפו של המלבן בעל ההיקף הגדול ביותר.



20) שני הולכי רגל יוצאים בו זמנית לדרכם, האחד

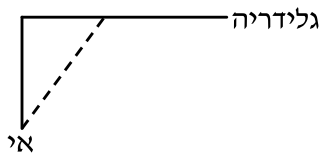
מעיר A מערבה לעיר B והשני מעיר B דרומה לעיר C.

המרחק בין הערים A ו-B הוא 20 ק"מ.

מהירות הרוכב שיצא מ-A היא 4 קמ"ש ומהירות הרוכב השני 2 קמ"ש

כעבור כמה זמן מיציאת הרוכבים יהיה המרחק ביניהם מינימלי?

מצא גם את המרחק המינימלי.



- 21) אדם נמצא על אי במרחק 0.5 ק"מ מהחוף. על החוף, במרחק של 3 ק"מ מהנקודה הקרובה ביותר לאי, נמצאת גלידריה. האדם שוחה במהירות של 8 קמ"ש ורץ על החוף במהירות של 10 קמ"ש. לאיזה מרחק מהגלידריה עליו לשחות כדי להגיע לגלידריה בזמן הקצר ביותר?



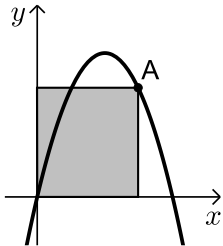
- 22) אדם מתכנן לבנות מרפסת בביתו ורוצה להציב מעקה סביב המרפסת. שטח המרפסת המתוכנן הוא 24 מ"ר. מחיר מעקה בחזית המרפסת (BC) הוא 120 ₪ למטר ומחיר מעקה בצדי המרפסת הוא 40 ₪ למטר. מה צריכים להיות ממדי המרפסת כדי שמחיר המעקה יהיה מינימלי?

### תשובות סופיות:

- 6) 8 ס"מ.  
7) א.  $a/3$ . ב. הוכחה.  
8) א. 6 ס"מ ו-6 ס"מ. ב. 18 סמ"ר.  
9) 80 סמ"ר.  $S =$   
10)  $\frac{ab}{4}$  יחידות שטח.  
11) 4 ס"מ, 16 ס"מ.  
12)  $x = 2.75$ .  
13)  $x = 6$ .  
14) א.  $2x^2 - 32x + 240$ . ב.  $x = 8$ .  
15) א.  $DF = \frac{8x}{x-2}$ . ב.  $x = 6, L = \frac{x^2 + 6x}{x-2}$ .  
16) א. 6 ס"מ על 10 ס"מ. ב. 12 ס"מ על 20 ס"מ.  
17) א. 11 ס"מ על 22 ס"מ. ב.  $S = 98$ .  
18) 92 ס"מ.  
19)  $2\sqrt{5R} - 2a$  יחידות אורך.  
20) 4 שעות, המרחק:  $\sqrt{80}$  ק"מ.  
21)  $2\frac{1}{3}$  ק"מ.  
22) 4·6
- ג.  $6\sqrt{2} \approx 8.48$  ס"מ.  
ג. 128 סמ"ר.  $S =$   
ג.  $L = 18$ .

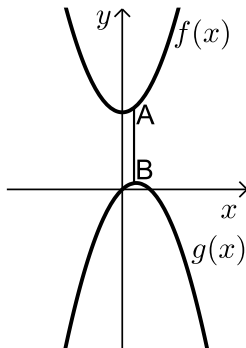
## בעיות קיצון בפונקציות וגרפים:

### שאלות:



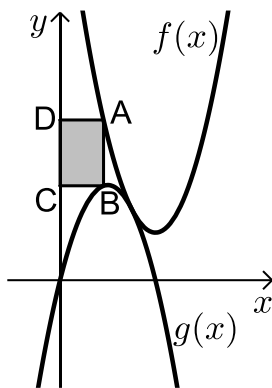
**(23)** נתונה הפונקציה  $f(x) = 6x - x^2$ .

מנקודה A שעל הפונקציה ברביע הראשון הורידו אנכים לצירי השיעורים כך שנוצר מלבן כמתואר בשרטוט. מה צריכים להיות שיעורי הנקודה A כדי ששטח המלבן יהיה מקסימלי?



**(24)** נתונות הפונקציות:  $f(x) = x^2 + 12$  ו-  $g(x) = 2x - x^2 - 1$

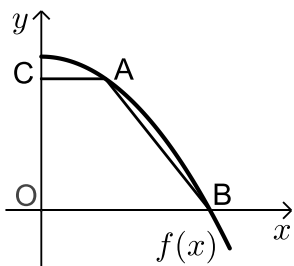
כמתואר: הנקודות A ו-B נמצאות בהתאמה על הגרפים של הפונקציות:  $f(x)$  ו-  $g(x)$  כך שהקטע AB מקביל לציר ה-  $y$ . מצא מה צריכים להיות שיעורי הנקודה A כדי שאורך הקטע AB יהיה מינימלי.



**(25)** באיור שלפניך מתוארים הגרפים של

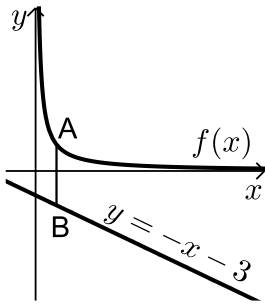
הפונקציות:  $f(x) = x^2 - 8x + 18$  ו-  $g(x) = -x^2 + 4x - 1$ .

הנקודה A נמצאת על גרף הפונקציה  $f(x)$  והנקודה B נמצאת על גרף הפונקציה  $g(x)$  כך שהקטע AB מקביל לציר ה-  $y$ . מעבירים אנכים מהנקודות A ו-B לציר ה-  $y$  כך שנוצר מלבן (המסומן). נסמן את שיעור ה-  $x$  של הנקודה A ב-  $t$ .  
א. הבע באמצעות  $t$  את שטח המלבן המסומן.  
ב. מצא את ערכו של  $t$  עבורו שטח המלבן הוא מקסימלי.  
ג. מה יהיה שטח המלבן במקרה זה?



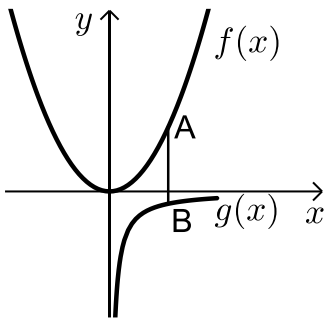
**(26)** נתונה הפונקציה:  $f(x) = 36 - x^2$ .

על גרף הפונקציה ברביע הראשון מסמנים נקודה A. מהנקודה A מעבירים ישר המקביל לציר ה-  $x$  שחותך את ציר ה-  $y$  בנקודה C. הנקודה B היא נקודת החיתוך של הפונקציה עם ציר ה-  $x$  ו-O ראשית הצירים.  
א. מה צריכים להיות שיעורי הנקודה A כדי ששטח הטרפז ABOC יהיה מקסימלי?  
ב. מה יהיה שטח הטרפז במקרה זה?



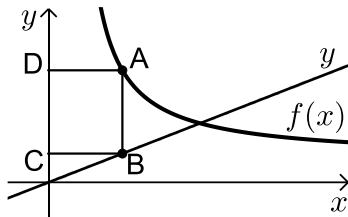
(27) נתונה הפונקציה:  $f(x) = \frac{4}{x}$  ונתון הישר:  $y = -x - 3$ .

הנקודה A נמצאת על גרף הפונקציה  $f(x)$  והנקודה B נמצאת על גרף הישר כך שהקטע AB מקביל לציר ה- $y$ . מצא מה צריכים להיות שיעורי הנקודה A כדי שאורך הקטע AB יהיה מינימלי.



(28) נתונות שתי פונקציות:  $f(x) = \frac{1}{2}x^2$  ו- $g(x) = -\frac{1}{x}$ .

מסמנים נקודה A על גרף הפונקציה  $f(x)$  ונקודה B על גרף הפונקציה  $g(x)$  כך שהקטע AB מקביל לציר ה- $y$ . מצא את שיעורי הנקודות A ו-B עבורן אורך הקטע AB מינימלי.



(29) באיור שלפניך מתוארים הגרפים של

הפונקציה:  $f(x) = \frac{x+8}{x-1}$  והישר:  $y = \frac{9x}{25}$ .

הנקודות A ו-B נמצאות על הגרפים של הפונקציות כך שהקטע AB מקביל לציר ה- $y$ .

מהנקודות A ו-B מותחים אנכים לציר ה- $y$  כך שנוצר המלבן ABCD. נסמן את שיעור ה- $x$  של הנקודה A ב- $t$ .

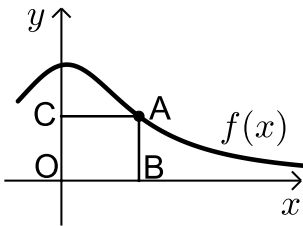
א. הבע באמצעות  $t$  את היקף המלבן ABCD.

ב. מצא את  $t$  עבורו היקף המלבן הוא מינימלי.

ג. מה יהיה ההיקף במקרה זה?

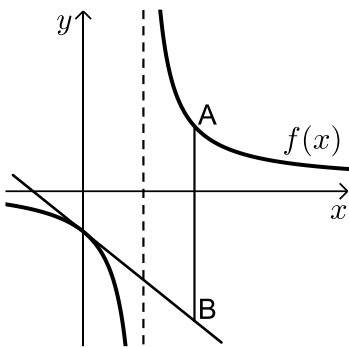
(30) נתונה הפונקציה  $f(x) = \frac{2}{x-1}$  והישר  $y = 2x$ .

בין הישר והפונקציה ברביע הראשון חסמו מלבן. מצא את מידות המלבן שהיקפו מינימלי.



**(31)** נתונה הפונקציה:  $f(x) = \frac{x+12}{x^2+3}$  בתחום:  $x \geq 0$ .

- מקצים נקודה A על גרף הפונקציה וממנה מורידים אנכים לצירים כך שנוצר המלבן ABCO כמתואר באיור.
- א. מצא מה צריכים להיות שיעורי הנקודה A עבורם שטח המלבן יהיה מקסימלי.
- ב. מה צריכים להיות שיעורי הנקודה A עבורם שטח המלבן יהיה מינימלי בתחום הנ"ל.



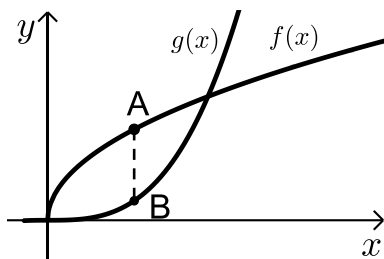
**(32)** נתונה הפונקציה:  $f(x) = \frac{x+10}{x-2}$ .

- מעבירים משיק לגרף הפונקציה דרך נקודת החיתוך שלה עם ציר ה- $y$ .
- א. מצא את משוואת המשיק.
- מסמנים נקודה A על גרף הפונקציה ברביע הראשון ו-B על גרף המשיק כך שהקטע AB מקביל לציר ה- $y$ .

- ב. מצא את שיעורי הנקודה A עבורן אורך הקטע AB הוא מינימלי.
- ג. מה יהיה אורך הקטע AB במקרה זה?

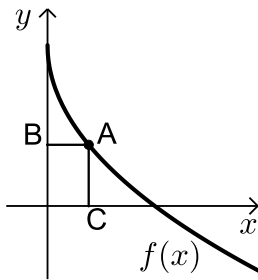
**(33)** נתונה הפונקציה  $f(x) = \frac{1}{x^3}$ .

- מצא שיעורי נקודה על הפונקציה ברביע הראשון, שסכום הקטעים שהמשיק בה מקצה על הצירים הוא מינימלי.



**(34)** נתונות הפונקציות  $f(x) = 2\sqrt{x}$  ו-  $g(x) = \frac{1}{3}x^3 - 1$ .

- את הנקודה A שעל  $f(x)$  חיברו עם הנקודה B, שנמצאת מתחתיה על  $g(x)$  כך שהקטע AB מקביל לציר ה- $y$ .
- מה צריכים להיות שיעורי הנקודה A כדי שאורך הקטע AB יהיה מקסימלי?



- 35) באיור שלפניך מתואר גרף הפונקציה:  $f(x) = 6 - 3\sqrt{x}$ . הנקודה A נמצאת על גרף הפונקציה ברביע הראשון. מהנקודה A מותחים אנכים לצירים אשר חותכים אותם בנקודות B ו-C כמתואר באיור. נסמן את שיעור ה-x של הנקודה A ב-t. א. הבע באמצעות t את סכום הקטעים AC+AB. ב. מצא את ערכו של t עבורו סכום הקטעים הנ"ל יהיה מינימלי.

- 36) נתונות הפונקציות:  $f(x) = 1 - x^2$  ו-  $g(x) = bx^2$  ( $b > 0$ ). הפונקציות נחתכות בנקודות A ו-B. מצא את ערכו של b שבעבורו הקטע AO מינימלי (O - ראשית הצירים).

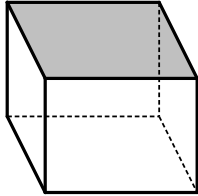
**תשובות סופיות:**

- 23) A(4,8)
- 24) A(0.5,12.25)
- 25) א.  $S = 2t^3 - 12t^2 + 18t$  ב.  $t = 1$  ג.  $S = 8$
- 26) א. A(2,32) ב.  $S = 128$
- 27) A(2,2)
- 28) A(1, 1/2), B(1,-1)
- 29) א.  $P = \frac{1.28t^2 + 0.72t + 16}{t-1}$  ב.  $t = 4 \frac{3}{4}$  ג.  $P = 12.88$  ס"מ
- 30) 1.2
- 31) א. A(2,2) ב. A(0,4)
- 32) א.  $y = -3x - 5$  ב. A(4,7) ג. AB = 24
- 33)  $(\sqrt{3}, \frac{1}{3\sqrt{3}})$
- 34) A(1,2)
- 35) א.  $l = t + 6 - 3\sqrt{t}$  ב.  $t = 2.25$
- 36)  $b = 1$

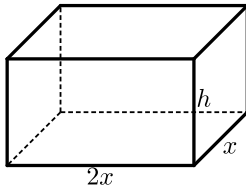
## בעיות קיצון בהנדסת המרחב:

### שאלות:

37) נתונה תיבה שבסיסה ריבוע ושטח הפנים שלה הוא 96 סמ"ר. מצא את מידות התיבה שנפחה מקסימלי.

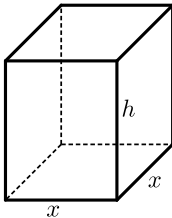


38) נתונה תיבה שבסיסה ריבוע ושטח פניה (ללא המכסה) הוא 75 סמ"ר. מצא את אורך צלע הבסיס של התיבה שנפחה הוא מקסימלי.



39) נתונה תיבה שבסיסה הוא מלבן שבו צלע אחת גדולה פי 2 מהצלע הסמוכה לה כמתואר באיור. ידוע כי גובה התיבה  $h$  וצלע המלבן הקטנה  $x$  מקיימים:  $x + h = 9$ .

מצא מה צריכים להיות מידות בסיס התיבה כדי שנפחה יהיה מקסימלי.



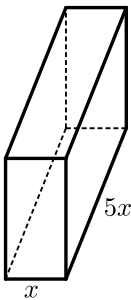
40) נתונה תיבה שגובהה הוא  $h$  ובסיסה הוא ריבוע שאורך צלעו היא  $x$ .

נתון כי צלע הריבוע וגובה התיבה מקיימים:  $4x + h = 63$ .

א. הבע את  $h$  באמצעות  $x$ .

ב. הבע את שטח הפנים של התיבה באמצעות  $x$ .

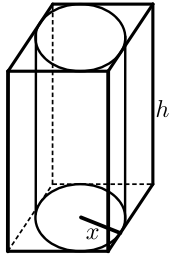
ג. מה צריך להיות ערכו של  $x$  כדי ששטח הפנים יהיה מקסימלי?



41) ליוסי משטח פח אשר הוא רוצה לבנות תיבה ממנו שנפחה הכולל הוא 225 סמ"ק. יוסי רוצה שאורך הבסיס יהיה גדול פי 5 מרוחבו כמתואר באיור הסמוך. כמות הפח שיש בידי יוסי מוגבלת ולכן הוא רוצה לדעת מה היא הכמות המינימלית של פח שעליו להשתמש בכדי להשיג את מבוקשו. מצאו את כמות הפח המינימלית.

42) לבניית תיבה שנפחה 144 סמ"ק ואורך בסיסה גדול פי 2 מרוחב בסיסה דרושים שני חומרים להם שני מחירים שונים: החומר לבסיס התחתון יקר פי 3 מהחומר לפאות הצדדיות והבסיס העליון. מהן מידות התיבה הזולה ביותר שניתן לבנות?

**43** מכל הגלילים הישרים שהיקף פרישת המעטפת שלהם הוא  $k$  מצא את נפחו של הגליל בעל הנפח המקסימלי.



**44** באיור שלפניך מתוארים תיבה שבסיסה ריבוע וגליל החסום בתוך התיבה. רדיוס הגליל יסומן ב- $x$  וגובהו ב- $h$ . ידוע כי הסכום של  $x$  ו- $h$  הוא 12 ס"מ.

א. הבע באמצעות  $x$  את אורך מקצוע הבסיס של התיבה.  
ב. ענה על הסעיפים הבאים:

i. הבע באמצעות  $x$  את נפח הגליל.

ii. הבע באמצעות  $x$  את נפח התיבה.

ג. מצא את  $x$  עבורו הנפח הכלוא בין התיבה לגליל יהיה מקסימלי.

**45** נתונה פירמידה מרובעת, משוכללת וישרה. אורך מקצוע צדדי בפירמידה הוא  $k$  ושטח המעטפת שלה הוא  $S$ . הוכח:  $S < 2k^2$ .

### תשובות סופיות:

**37** 4·4·4 ס"מ.

**38** 5 ס"מ.

**39** בסיס: 6 ס"מ, 12 ס"מ. גובה: 3 ס"מ.

**40** א.  $h = 63 - 4x$  ב.  $p = -14x^2 + 252x$  ג.  $x = 9$ .

**41** 3 ס"מ, 15 ס"מ ו-5 ס"מ.

**42** 8·6·3 ס"מ.

**43** יחידות נפח  $\frac{k^3}{216\pi}$ .

**44** א.  $2x$  ב. i.  $V = 12\pi x^2 - \pi x^3$  ii.  $V = 48x^2 - 4x^3$

ג.  $x = 8$ .

**45** הוכחה.

## בעיות קיצון עם תשובה נתונה:

### שאלות:

#### בעיות קיצון בהנדסת המרחב:

(1) נתונים שני מספרים חיוביים  $p$  ו- $q$  שסכומם  $a$ .  
 הראה שכאשר מתקיים  $\frac{p}{q} = \frac{n}{m}$  ערך הביטוי  $p^n q^m$  ( $n$  ו- $m$  טבעיים) מקסימלי.

(2) הוכח שמכל החרוטים הישרים שנפחם  $\pi k$  סמ"ק, החרוט בעל שטח המעטפת המינימלי הוא זה שגובהו  $\sqrt[3]{6k}$  ס"מ.  
 (שטח מעטפת של חרוט הוא  $\pi Rl$ , כאשר  $l$  הוא הקו היוצר של החרוט).

#### בעיית קיצון עם תנועה:

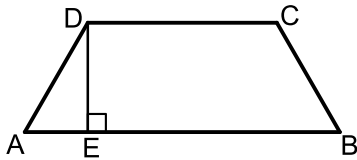
(3) מהירותו של רכב היא  $v$  קמ"ש ועליו לנסוע דרך של  $S$  ק"מ.  
 לרכב יש הוצאות נסיעה של  $\frac{v}{400}$  ש"ח לכל ק"מ נסיעה ו- $\frac{v^2}{200} + 48$  ש"ח לכל שעת נסיעה.  
 הראה שכדי שהוצאותיו יהיו מינימליות על הרכב לנסוע במהירות של 80 קמ"ש.

### תשובות סופיות:

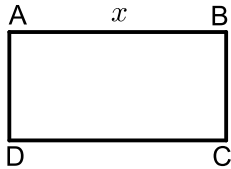
- (1) הוכחה.
- (2) הוכחה.
- (3) הוכחה.

## בעיות קיצון שונות בהנדסת המישור:

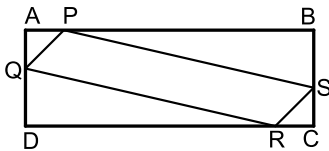
### שאלות:



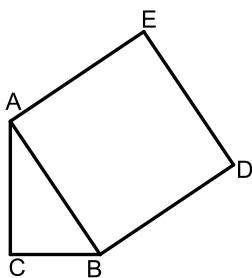
- (1) בטרפז שווה-שוקיים ABCD ( $AB \parallel CD$ ) אורך השוק הוא 4 ס"מ ואורך הבסיס הקטן הוא 6 ס"מ. DE הוא הגובה מקדקוד D (ראה ציור). מה צריך להיות אורך הקטע AE כדי ששטח הטרפז יהיה מקסימלי?



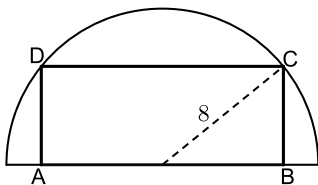
- (2) נתון מלבן ABCD .  
נסמן ב- $x$  את אחת מצלעות המלבן (ראה ציור). אם היקף המלבן הוא 60 ס"מ:  
א. בטא באמצעות  $x$  את שטח המלבן.  
ב. אם היקף המלבן הוא  $p$  מצא מה צריכות להיות אורכי צלעות המלבן כדי ששטחו יהיה מקסימלי. (הבע את אורכי הצלעות באמצעות  $p$ ).



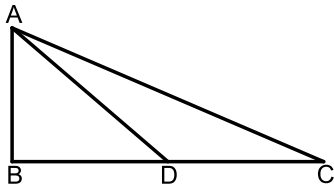
- (3) נתון מלבן ABCD כך ש- $AD = BC = 5$  ס"מ,  $AB = CD = 10$  ס"מ. על צלעות המלבן מקצים קטעים:  $AP = AQ = CS = CR = x$  (ראה ציור). מה צריך להיות ערכו של  $x$  כדי ששטח המקבילית PQRS יהיה מקסימלי?



- (4) במשולש ישר זווית  $\triangle ABC$  ( $\sphericalangle C = 90^\circ$ ) סכום אורכי הניצבים הוא 8 ס"מ. על היתר AB בונים ריבוע ABDE. מה צריכים להיות אורכי הניצבים כדי ששטח המחומש AEDBC יהיה מינימלי?



- (5) בחצי עיגול שרדיוסו 8 ס"מ חוסמים מלבן ABCD, כך שהצלע AB של המלבן מונחת על הקוטר, והקדקודים C ו-D מונחים על הקשת (ראה ציור). מה צריך להיות אורך הצלע AB כדי ששטח המלבן יהיה מקסימלי?



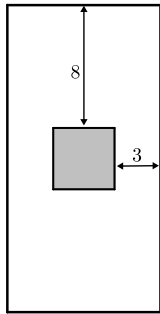
6) במשולש ישר-זווית  $\triangle ABC$  ( $\sphericalangle B = 90^\circ$ ),

סכום אורכי הניצבים הוא 30 ס"מ.

AD הוא תיכון לניצב BC.

חשב מה צריכים להיות אורכי הניצבים,

על מנת שריבוע אורך התיכון יהיה מינימלי.



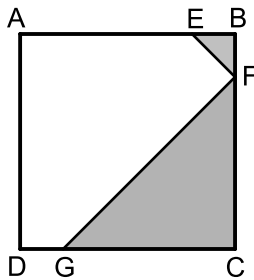
7) בחוברת פרסום, שטח כל עמוד הוא 600 סמ"ר.

רוחב השוליים בראש העמוד ובתחתיתו הוא 8 ס"מ,

ורוחב השוליים בצדדים הוא 3 ס"מ.

מצא מה צריך להיות האורך והרוחב של כל עמוד כדי שהשטח

המיועד לדפוס יהיה מקסימלי (השטח המסומן בציר).



8) בריבוע ABCD הנקודות E, F, G נמצאות על

הצלעות AB, BC, DC בהתאמה, כך

ש-  $BE = BF$ ,  $CF = CG$  (ראה ציור).

נתון כי האורך של צלע הריבוע הוא 6 ס"מ.

א. סמן ב- $x$  את BF ואת BE, והבע באמצעות  $x$

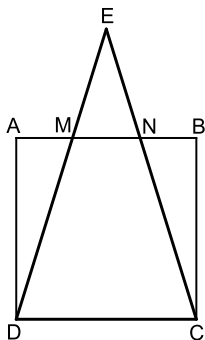
את הסכום של שטחי המשולשים EBF ו-FCG

(השטח המסומן בציר)

ב. ענה על הסעיפים הבאים:

i. מצא את  $x$  שעבורו סכום שטחי המשולשים הוא מינימלי.

ii. חשב את הסכום המינימלי של שטחי המשולשים.



9) נתון ריבוע ABCD שאורך צלעו 10 ס"מ.

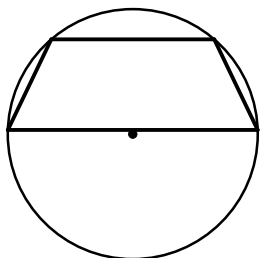
E היא נקודה כלשהי מחוץ לריבוע, כך שהמשולש DEC הוא

שווה שוקיים ( $ED = EC$ ).

שוקי המשולש חותכות את הצלע AB בנקודות M ו-N (ראה ציור).

מצא מה צריך להיות אורך הקטע AM כדי שהסכום של

שטחי המשולשים AMD, EMN, BNC יהיה מינימלי.



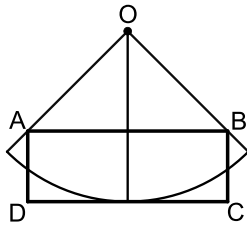
10) נתון מעגל שרדיוסו  $R$ . במעגל זה חסום טרפז שוו"ש,

כך שהבסיס הגדול של הטרפז הוא קוטר במעגל (ראה ציור).

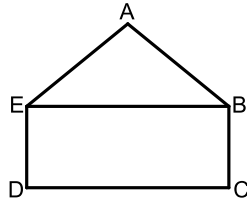
מבין כל הטרפזים החסומים באופן זה,

הבע באמצעות  $R$  את אורך הבסיס הקטן בטרפז

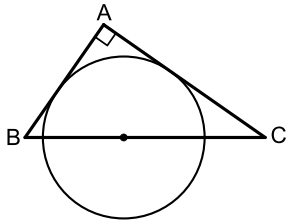
ששטחו מקסימלי.



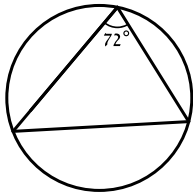
- 11** נתונה גזרה של רבע עיגול שמרכזו  $O$  ורדיוסו  $10$  ס"מ. בונים מלבן  $ABCD$ , כך שרבע המעגל משיק לצלע  $DC$  בנקודת האמצע שלה, והקדקודים  $A$  ו- $B$  נמצאים על הרדיוסים התוחמים את הגזרה (ראה ציור). מבין כל האלכסונים של המלבנים  $ABCD$  שנוצרים באופן זה, מצא את אורך האלכסון הקצר ביותר.



- 12**  $ABCDE$  הוא מחומש המורכב ממשולש  $ABE$  וממלבן  $EBCD$  (ראה ציור). נתון:  $BC = 2$  ס"מ,  $AB = AE = 4$  ס"מ. מצא את השטח של המחומש ששטחו מקסימלי.



- 13** מתבוננים בכל המשולשים ישרי הזווית  $ABC$  החוסמים חצי מעגל שרדיוסו  $R$  כמתואר בציור. מהן זוויות המשולש שסכום הניצבים שלו הוא מינימלי?



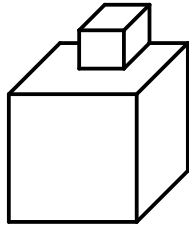
- 14** במעגל שרדיוסו  $R$  חסומים משולשים כך שהגודל של הזווית בכל אחד מהמשולשים הוא  $\frac{2\pi}{5}$ . מצא את הזוויות במשולש בעל ההיקף המקסימלי.

**תשובות סופיות:**

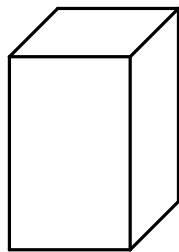
- (1)  $AE = 1.7$  ס"מ
- (2)  $x(30-x)$  א. ב. כל צלע שווה ל-  $0.25p$ .
- (3)  $x = 3.75$  ס"מ
- (4)  $AC = BC = 4$
- (5)  $AB = 2\sqrt{32}$
- (6)  $AB = 6$  ס"מ,  $BC = 24$  ס"מ
- (7) אורך: 40 ס"מ, רוחב: 15 ס"מ.
- (8) א.  $S = x^2 - 6x + 18$  ב. i.  $x = 3$  ב. ii. 9 סמ"ר.
- (9)  $AM = \frac{5}{\sqrt{2}}$
- (10)  $R =$  בסיס קטן
- (11)  $4\sqrt{5}$  ס"מ
- (12)  $12\sqrt{3}$  סמ"ר
- (13)  $45^\circ, 45^\circ, 90^\circ$
- (14)  $\frac{3}{10}\pi, \frac{3}{10}\pi, \frac{2}{5}\pi$

## בעיות קיצון שונות בהנדסת המרחב:

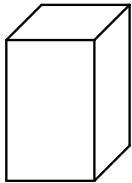
### שאלות:



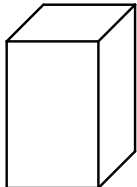
**15** גובהו של "מגדל" הבנוי משתי קוביות (לאו דווקא שוות) הוא 8 ס"מ.  
 מה צריך להיות אורך המקצוע של הקובייה התחתונה כדי שנפח המגדל (סכום נפחי הקוביות) יהיה מינימלי?



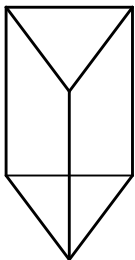
**16** בונים תיבה שגובהה  $y$  ס"מ, ובסיסה ריבוע, שאורך צלעו  $x$  ס"מ (ראה ציור), כך שההיקף של כל אחת מהדפנות הצדדיות שווה ל-12 ס"מ.  
 מה צריך להיות אורך צלע הבסיס כדי שנפח התיבה יהיה מקסימלי?



**17** יש לבנות תיבה פתוחה מלמעלה, שבסיסה ריבוע ושטח פניה הוא 75 סמ"ר (במקרה זה שטח הפנים מורכב מבסיס אחד ומארבע פאות צדדיות). מכל התיבות שאפשר לבנות, מצא את ממדי התיבה (צלע הבסיס וגובה) שנפחה מקסימלי.

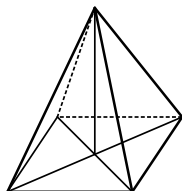


**18** יש להכין מחוט תיל "שלד" (מסגרת) של תיבה, שבסיסה ריבוע ונפחה 1000 סמ"ק.  
 מהו האורך המינימלי של החוט הנחוץ ליצירת התיבה?

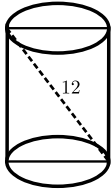


**19** מחוט שאורכו  $a$  ס"מ יש לבנות מנסרה משולשת ישרה, שבסיסה הוא משולש שווה צלעות. מצא איזה חלק מאורך החוט יש להקצות לצלע הבסיס  $x$  ואיזה חלק לגובה  $y$  כדי שיתקיים (בטא ע"י  $a$ ):  
 א. שטח המעטפת של המנסרה יהיה מקסימלי.  
 ב. נפח המנסרה יהיה מקסימלי.

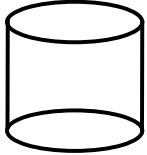
**20** מכל הפירמידות המרובעות, המשוכללות והישרות, שאורך המקצוע הצדדי שלהן הוא  $a$ , מצא את נפחה של הפירמידה בעלת הנפח המקסימלי.



**21** מכל הפירמידות הישרות, שבסיסן ריבוע ושטח הפנים שלהן הוא 200 סמ"ר, חשב את נפחה של הפירמידה בעלת הנפח המקסימלי.

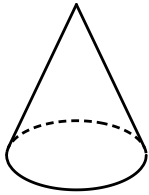


**(22)** אלכסון החתך הצירי של גליל ישר הוא 12 ס"מ (ראה ציור). מצא מה צריכים להיות גובה הגליל ורדיוס בסיסו כדי שנפחו יהיה מקסימלי.



**(23)** נתון מיכל גלילי פתוח מלמעלה שקיבולו 64 מ"ק. המיכל עשוי כולו מפח. הראה כי שטח הפח הוא מינימלי כאשר רדיוס הבסיס

$$\text{הוא } \frac{4}{\sqrt[3]{\pi}} \text{ מטר.}$$



**(24)** מבין כל החרוטים שאורך הקו היוצר שלהם הוא 10 ס"מ (ראה ציור), מהו נפח החרוט שנפחו מקסימלי?

### תשובות סופיות:

**(15)** 4 ס"מ.

**(16)** 4 ס"מ.

**(17)** צלע הבסיס: 5 ס"מ, גובה: 2.5 ס"מ.

**(18)** 120 ס"מ.

**(19)** א.  $x = \frac{1}{12}a$ ,  $y = \frac{1}{6}a$ . ב.  $x = y = \frac{1}{9}a$ .

**(20)**  $\frac{4\sqrt{3}}{27}a^3$ .

**(21)**  $\frac{500}{3}$  סמ"ק.

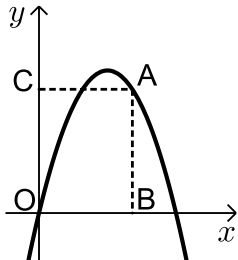
**(22)** גובה:  $\sqrt{48}$  ס"מ. רדיוס:  $\sqrt{24}$  ס"מ.

**(23)** הוכחה.

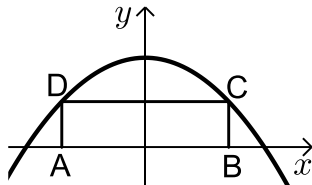
**(24)** 403.1 סמ"ק.

## בעיות קיצון שונות בפונקציות וגרפים:

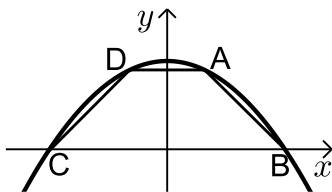
### שאלות:



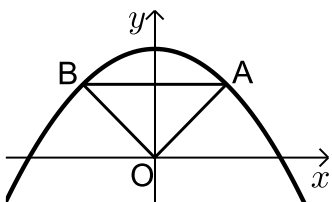
- (25)** מנקודה A, הנמצאת על גרף הפונקציה  $y = -x^2 + 5x$ , מורידים אנכים לצירים כך שנוצר מלבן ABCO (ראה ציור).  
 א. מה צריכים להיות שיעורי הנקודה A כדי שהיקף המלבן יהיה מקסימלי?  
 ב. מה צריכים להיות שיעורי הנקודה A כדי שהיקף המלבן יהיה מינימלי?



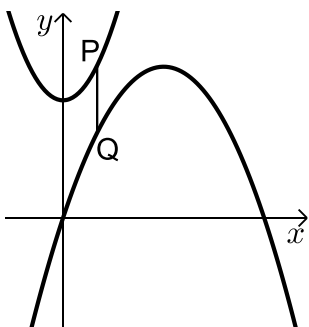
- (26)** בפרבולה  $y = 9 - x^2$  חוסמים מלבן ABCD, כך שהצלע AB מונחת על ציר ה-x (ראה ציור).  
 מה צריך להיות אורך הצלע CD כדי ששטח המלבן יהיה מקסימלי?



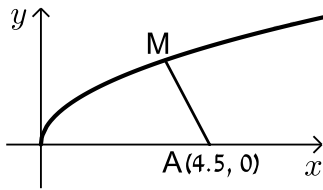
- (27)** טרפז ABCD חסום בין גרף הפרבולה  $y = 9 - x^2$  לבין ציר ה-x (ראה ציור).  
 א. מה צריכים להיות שיעורי הנקודה A כדי ששטח הטרפז ABCD יהיה מקסימלי?  
 ב. חשב את השטח המקסימלי של טרפז ABCD.



- (28)** נתונה הפרבולה  $y = -x^2 + 12$ . ישר המקביל לציר ה-x חותך את הפרבולה בנקודות A ו-B (ראה ציור).  
 מחברים את הנקודות A ו-B עם ראשית הצירים, O.  
 א. מה צריך להיות אורך הקטע AB כדי ששטח המשולש AOB יהיה מקסימלי?  
 ב. מהו השטח המקסימלי של המשולש AOB?

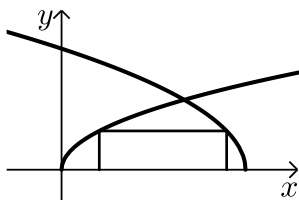


- (29)** נתונים הגרפים של שתי פרבולות:  $y = \frac{1}{2}x^2 + 7$  ו-  $y = -\frac{1}{4}x^2 + 3x - 1$ . קו מקביל לציר ה-y חותך את שתי הפרבולות בנקודות P ו-Q (ראה ציור). מבין כל הקטעים המתקבלים באופן זה, מצא את האורך המינימלי של הקטע PQ.

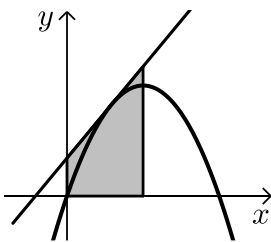


- 30** נתון גרף הפונקציה  $y = \sqrt{x}$ .  
על ציר ה- $x$  נתונה הנקודה  $A(4.5, 0)$  (ראה ציור).  
מצא על גרף הפונקציה נקודה  $M$ , כך שריבוע המרחק  $AM$  יהיה מינימלי.

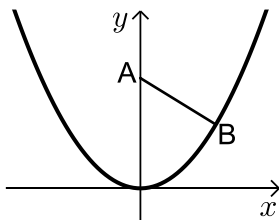
- 31** מצא על הישר  $y = 3x - 4$  את הנקודה הקרובה ביותר לנקודה  $(0, 1)$ .



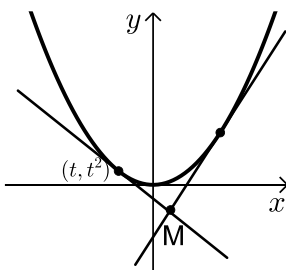
- 32** בציור שלפניך מתוארים הגרפים של הפונקציות:  $f(x) = \sqrt{3x}$ ,  $g(x) = \sqrt{36-6x}$ .  
מלבן חסום בין הגרפים של הפונקציות ובין ציר ה- $x$ , כמתואר בציור.  
מצא את השטח הגדול ביותר האפשרי למלבן שחסום באופן זה.



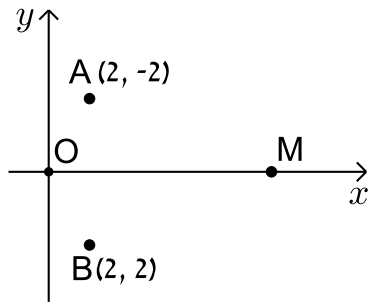
- 33** דרך איזו נקודה על הפרבולה  $y = -x^2 + 2x$  צריך להעביר משיק, כדי ששטח הטרפז, הנוצר על ידי המשיק והישרים:  $x = 0$ ,  $x = 1$ ,  $y = 0$ , יהיה מינימלי? (השטח המסומן שבציור)



- 34** נקודה  $B$  נמצאת על גרף הפונקציה  $y = x^2$  ברביע הראשון.  $A$  היא הנקודה  $(0, a)$  כאשר ידוע כי  $a > 0.5$  (ראה ציור).  
א. בטא באמצעות  $a$  את שיעורי הנקודה  $B$ , שעבורה המרחק  $AB$  הוא מינימלי.  
ב. מצא עבור איזה ערך של  $a$  המרחק המינימלי הוא 2.



- 35** נתונה הפרבולה  $y = x^2$ , ונתון משיק לפרבולה שמשוואתו היא  $y = 6x - 9$ . בנקודה  $(t, t^2)$  שעל הפרבולה מעבירים משיק נוסף לפרבולה.  
המשיקים נחתכים בנקודה  $M$  (ראה ציור).  
א. הבע את משוואת המשיק הנוסף באמצעות  $t$ .  
ב. מצא את  $t$  שעבורו אורך הקטע, המחבר את הנקודה  $M$  עם קדקוד הפרבולה יהיה מינימלי.



**(36)** במערכת צירים נתונות הנקודות  $A(2, 2)$  ו- $B(2, -2)$ . ראשית הצירים היא בנקודה  $O$ .  $M$  היא נקודה על ציר ה- $x$  בתחום  $x > 0$ . מה צריכים להיות שיעורי הנקודה  $M$ , כדי שהסכום:  $OM + MA + MB$  יהיה מינימלי?

### תשובות סופיות:

ב.  $A(0, 0)$  או  $A(5, 0)$ .

ב. 32.

ב.  $S_{\Delta AOB} = 16$ .

ב. 4.25.

ב.  $t = -\frac{3}{37}$ .

א.  $A(3, 6)$  (25)

א.  $CD = 2\sqrt{3}$  (26)

א.  $A(1, 8)$  (27)

א.  $AB = 4$  (28)

א.  $PQ = 4$  (29)

א.  $M(4, 2)$  (30)

א.  $(1.5, 0.5)$  (31)

8 (32)

א.  $(0.5, 0.75)$  (33)

א.  $B\left(\sqrt{\frac{2a-1}{2}}, \frac{2a-1}{2}\right)$  (34)

א.  $y = 2xt - t^2$  (35)

א.  $M(0.845, 0)$  (36)

# מכינה למבחן פטור (חדוא 0)

פרק 19 - חשבון דיפרנציאלי - פונקציות מעריכיות

תוכן העניינים

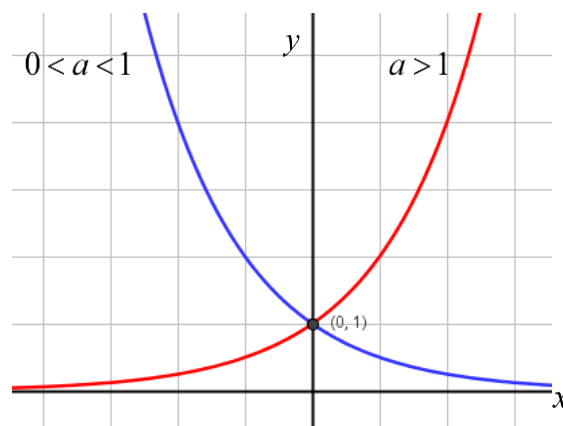
- 339 ..... 1. הנגזרת של פונקציה מעריכית.
- 343 ..... 2. שימושי הנגזרת.
- 344 ..... 3. חקירה של פונקציה מעריכית.

## הנגזרת של פונקציה מעריכית:

**סיכום כללי:**

**הגדרות כלליות:**

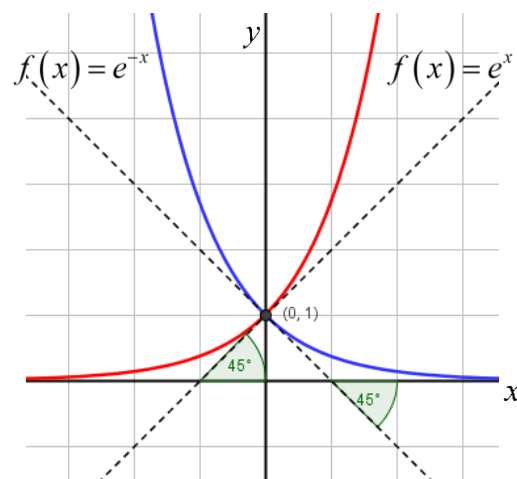
להלן תיאורים גרפיים של פונקציה מעריכית כללית מהצורה:  $f(x) = a^x$   
 עבור:  $a > 1$  ו-  $0 < a < 1$ :



**תכונות כלליות:**

1. הפונקציות מוגדרות לכל  $x$ .
2. הפונקציות תמיד חיוביות.
3. הפונקציות תמיד חותכות את ציר ה- $y$  בנקודה:  $(0, 1)$ .
4. עבור:  $a > 1$  הפונקציה עולה בכל ת.ה. ועבור:  $0 < a < 1$  הפונקציה יורדת בכל ת.ה.

עבור הפונקציות  $f(x) = e^x$  ו-  $f(x) = e^{-x}$  נקבל:



**תכונות נוספות:**

1. שיפוע המשיק לגרף הפונקציה  $f(x) = e^x$  בנקודת החיתוך עם ציר ה- $y$  הוא 1.
2. שיפוע המשיק לגרף הפונקציה  $f(x) = e^{-x}$  בנקודת החיתוך עם ציר ה- $y$  הוא -1.

**נגזרות של פונקציות מעריכיות:**

הפונקציה	הנגזרת
$y = a^x$	$y' = a^x \cdot \ln a$
$y = a^{f(x)}$	$y' = a^{f(x)} \cdot f'(x) \cdot \ln a$
$y = e^x$	$y' = e^x$
$y = e^{f(x)}$	$y' = e^{f(x)} \cdot f'(x)$

**תזכורת - כללי הגזירה:**

מספר כלל	הפונקציה	תיאור	הנגזרת
1.	$y = a \cdot f(x)$	מכפלה בקבוע	$y' = a \cdot f'(x)$
2.	$y = f(x) + g(x)$	סכום פונקציות	$y' = f'(x) + g'(x)$
3.	$y = f(x) \cdot g(x)$	מכפלת פונקציות	$y' = f'(x) \cdot g(x) + f(x) \cdot g'(x)$
4.	$y = \frac{f(x)}{g(x)}$	מנת פונקציות	$y' = \frac{f'(x) \cdot g(x) - f(x) \cdot g'(x)}{(g(x))^2}$
5.	$y = f(g(x))$	פונקציה מורכבת	$y' = f'(g(x)) \cdot g'(x)$

## שאלות:

(1) גזור את הפונקציות הבאות (סכום פונקציות):

$$\begin{array}{ll} \text{א. } f(x) = 3e^x + e^{2x} + e^{-x} + 2x + 1 & \text{ב. } f(x) = e^{x^2-3x} + ex \\ \text{ג. } f(x) = 2^{3x} & \text{ד. } f(x) = 3^{x^2} + 4^{-x} \end{array}$$

(2) גזור את הפונקציות הבאות (מכפלת פונקציות):

$$\text{א. } f(x) = x \cdot e^x \quad \text{ב. } f(x) = x^2 \cdot e^{4x} \quad \text{ג. } f(x) = (x+1) \cdot 2^x$$

(3) גזור את הפונקציות הבאות (מנת פונקציות):

$$\text{א. } f(x) = \frac{x^2}{e^x} \quad \text{ב. } f(x) = \frac{e^x}{e^x + 1}$$

(4) גזור את הפונקציות הבאות (פונקציה מורכבת):

$$\text{א. } f(x) = 5(e^{2x} - 1)^3 \quad \text{ב. } f(x) = \sqrt{e^{2x} + e^{-2x}} \quad \text{ג. } f(x) = \frac{e^{3x}}{\sqrt{e^x + 1}}$$

(5) גזור את הפונקציות הבאות (שאלות שונות):

$$\begin{array}{ll} \text{א. } f(x) = e^{2x} & \text{ב. } f(x) = e^x + 1 \\ \text{ג. } f(x) = e^{\frac{1}{x}} & \text{ד. } f(x) = (x^2 + 1)e^x \\ \text{ה. } f(x) = e^{-x}(x^2 + 4x + 1) & \text{ו. } f(x) = e^{3x-2} \\ \text{ז. } f(x) = e^x \cdot \frac{1}{x} & \text{ח. } f(x) = x^3 e^{2x} \\ \text{ט. } f(x) = e^{-2x}(x+4) & \text{י. } f(x) = e^{2x+1}(1-x) \\ \text{יא. } f(x) = \frac{1}{\frac{1}{e^x}} & \text{יב. } f(x) = \frac{x^3}{e^{3x}} \\ \text{יג. } f(x) = \frac{2+x^2}{e^{x^2}} & \text{יד. } f(x) = \frac{e^x - e^{-x}}{e^{-x} + e^x} \\ \text{טו. } f(x) = \frac{x^2+1}{e^{-x}} & \text{טז. } f(x) = \frac{e^x}{1-e^{x+1}} \end{array}$$

**תשובות סופיות:**

(1) א.  $3e^x + 2e^{2x} - e^{-x} + 2$  ב.  $(2x-3)e^{x^2-3x} + e$  ג.  $3\ln 2 \cdot 2^{3x}$  ד.  $2x \ln 3 \cdot 3^{x^2} - \ln 4 \cdot 4^{-x}$

(2) א.  $(1+x)e^x$  ב.  $2xe^{4x}(1+2x)$  ג.  $2^x(1+x\ln 2 + \ln 2)$

(3) א.  $\frac{x(2-x)}{e^x}$  ב.  $\frac{e^x}{(e^x+1)^2}$

(4) א.  $30e^{2x}(e^{2x}-1)^2$  ב.  $\frac{e^{2x}-e^{-2x}}{\sqrt{e^{2x}+e^{-2x}}}$  ג.  $\frac{5e^{4x}+6e^{3x}}{2\sqrt{(e^x+1)^3}}$

(5) א.  $2e^{2x}$  ב.  $e^x$  ג.  $-\frac{e^{1/x}}{x^2}$  ד.  $(x+1)^2 e^x$

ה.  $e^{-x}(-x^2-2x+3)$  ו.  $3e^{3x-2}$

ז.  $\frac{e^x(x-1)}{x^2}$  ח.  $x^2 e^{2x}(3+2x)$  ט.  $-e^{-2x}(2x+7)$

י.  $e^{2x+1}(1-2x)$

יא.  $\frac{e^{-1/x}}{x^2}$  יב.  $\frac{3x^2(1-x)}{e^{3x}}$  יג.  $\frac{-2x(x^2+1)}{e^{x^2}}$

יד.  $\frac{4}{(e^x+e^{-x})^2}$  טו.  $\frac{(x+1)^2}{e^{-x}}$  טז.  $\frac{e^x}{(1-e^{x+1})^2}$

## שימושי הנגזרת:

### שאלות:

- (6) מצא את משוואת המשיק לפונקציה  $f(x) = e^x$  בנקודה  $A(1, e)$ .
- (7) מצא את משוואת המשיק לפונקציה  $f(x) = e^{2x} + xe^{-x}$  בנקודה שבה  $x = 0$ .
- (8) מצא את משוואות המשיקים לפונקציה  $f(x) = (e+1)e^x - e^{2x}$  בנקודות החיתוך של הפונקציה עם הישר  $y = e$ .
- (9) נתונה הפונקציה:  $y = e^{2x} + 3ex$ .  
 לפונקציה העבירו משיק דרך הנקודה שבה:  $x = 2$ .  
 מצא את משוואת המשיק.
- (10) שיפוע המשיק לפונקציה  $f(x) = a \cdot 3^{2x-1} + 3^{x-b}$  בנקודה  $(1, 15)$  הוא  $21 \ln 3$ .  
 מצא את ערכי הפרמטרים  $a$  ו- $b$ .

### תשובות סופיות:

- (6)  $y = ex$
- (7)  $y = 3x + 1$
- (8)  $y = (-e^2 + e)x + e^2$ ,  $y = (e-1)x + e$
- (9)  $y = 2e^4x + 3ex - 3e^4$
- (10)  $b = -1$ ,  $a = 2$

## חקירה של פונקציה מעריכית:

### שאלות:

(11) מצא את תחום ההגדרה של הפונקציות הבאות:

$$\begin{array}{lll}
 \text{א. } f(x) = \frac{2x-1}{e^x} & \text{ב. } f(x) = \frac{3}{e^x-1} & \text{ג. } f(x) = \frac{x+1}{e^x-5} \\
 \text{ד. } f(x) = \frac{1}{e^{2x}-3e^x+2} & \text{ה. } f(x) = \frac{e^x-e^{-x}}{e^x+e^x} & \text{ו. } f(x) = \frac{\sqrt{e^x-1}}{5x-2} \\
 \text{ז. } f(x) = \sqrt{e^{2x}-4e^x+3} & & 
 \end{array}$$

(12) מצא את נקודות הקיצון של הפונקציה הבאה:  $f(x) = x^2e^x$ .

(13) מצא את נקודת הקיצון של הפונקציה הבאה:  $f(x) = \frac{e^x}{x-2}$ .

(14) נתונה הפונקציה:  $f(x) = \frac{ax^2+bx+9}{e^x}$ .

הפונקציה משיקה לציר ה- $x$  בנקודה שבה  $x = 1.5$ . מצא את ערכי הפרמטרים  $a$  ו- $b$  ואת נקודות הקיצון של הפונקציה.

(15) נתונה הפונקציה:  $f(x) = 8^x + p \cdot 2^x + q$ . לפונקציה יש נקודת קיצון בנקודה  $(\log_2 3, -19)$ . מצא את ערכי הפרמטרים  $p$  ו- $q$ .

(16) מצא את האסימפטוטות של הפונקציה הבאה:  $f(x) = e^{2x} + e^x$ .

(17) מצא את האסימפטוטות של הפונקציה הבאה:  $f(x) = \frac{e^x + e^{-x}}{e^{2x}}$ .

(18) מצא את האסימפטוטות של הפונקציה הבאה:  $f(x) = \frac{e^x + 5}{e^x - 1}$ .

(19) מצא את האסימפטוטות של הפונקציה הבאה:  $f(x) = \frac{e^{2x} + 1}{e^x - 5}$

(20) מצא את האסימפטוטות של הפונקציה הבאה:  $f(x) = \frac{e^x - e^{-x}}{e^x + e^{-x}}$

(21) מצא את האסימפטוטות של הפונקציה הבאה:  $f(x) = \frac{e^x - 2}{e^{2x} - 5e^x + 6}$

(22) מצא את האסימפטוטות של הפונקציה הבאה:  $f(x) = \frac{e^x}{x^2}$

(23) מצא את האסימפטוטות של הפונקציה הבאה:  $f(x) = \frac{x^3 - 1}{e^x}$

(24) מצא את האסימפטוטות של הפונקציה הבאה:  $f(x) = \frac{x-1}{e^{3x} - e}$

(25) מצא את האסימפטוטות של הפונקציה הבאה:  $f(x) = (x-3)e^x$

(26) מצא את האסימפטוטות של הפונקציה הבאה:  $f(x) = xe^{\frac{1}{x}}$

(27) נתונה הפונקציה:  $f(x) = \frac{x^2 + a}{be^x}$ . לפונקציה יש נקודת פיתול בנקודה  $(1, \frac{2}{e})$ . מצא את ערכי הפרמטרים  $a$  ו- $b$  ואת נקודת הפיתול השנייה של הפונקציה.

**(28)** חקור את הפונקציות הבאות עפ"י הסעיפים הבאים:

1. מציאת תחום ההגדרה של הפונקציה.
2. מציאת נקודות החיתוך של גרף הפונקציה עם הצירים.
3. מציאת נקודות הקיצון של הפונקציה וקביעת סוגן.
4. כתיבת תחומי העלייה והירידה של הפונקציה.

$$f(x) = (x^2 + 1)e^x \quad \text{ב.} \qquad f(x) = (x-1)e^x \quad \text{א.}$$

$$f(x) = e^{x^2-x} \quad \text{ד.} \qquad f(x) = x^2 e^{-\frac{1}{4}x^2} \quad \text{ג.}$$

$$f(x) = \frac{e^{2x} + 1}{e^{x+1}} \quad \text{ו.} \qquad f(x) = \frac{2}{e^{x^2} + 1} \quad \text{ה.}$$

**(29)** נתונה הפונקציה  $f(x) = (x-3)e^x$ . חקור על פי הסעיפים הבאים:

- א. מציאת תחום ההגדרה של הפונקציה.
- ב. מציאת נקודות הקיצון של הפונקציה.
- ג. תחומי עלייה וירידה של הפונקציה.
- ד. נקודות חיתוך של גרף הפונקציה עם הצירים.
- ה. סרטוט סקיצה של גרף הפונקציה.

**(30)** נתונה הפונקציה  $f(x) = e^{2x} - 8e^x + 6x + 10$ . חקור על פי הסעיפים הבאים:

- א. מציאת תחום ההגדרה של הפונקציה.
- ב. מציאת נקודות הקיצון של הפונקציה.
- ג. תחומי עלייה וירידה של הפונקציה.
- ד. מציאת נקודת החיתוך של גרף הפונקציה עם ציר ה- $y$ .
- ה. סרטוט סקיצה של גרף הפונקציה.

**(31)** נתונה הפונקציה  $f(x) = \frac{4x}{e^{0.5x^2}}$ . חקור על פי הסעיפים הבאים:

- א. מציאת תחום ההגדרה של הפונקציה.
- ב. מציאת נקודות הקיצון של הפונקציה.
- ג. תחומי עלייה וירידה של הפונקציה.
- ד. נקודות חיתוך של גרף הפונקציה עם הצירים.
- ה. סרטוט סקיצה של גרף הפונקציה.

**(32)** נתונה הפונקציה  $f(x) = \frac{x^3}{e^x}$ . חקור על פי הסעיפים הבאים:

- א. מציאת תחום ההגדרה של הפונקציה.
- ב. מציאת נקודות הקיצון של הפונקציה.
- ג. תחומי עלייה וירידה של הפונקציה.
- ד. נקודות חיתוך של גרף הפונקציה עם הצירים.
- ה. סרטוט סקיצה של גרף הפונקציה.

**(33)** נתונה הפונקציה  $f(x) = 2x \cdot 3^x$ . חקור את הפונקציה על פי הסעיפים הבאים:

- א. מציאת תחום ההגדרה של הפונקציה.
- ב. מציאת נקודות הקיצון של הפונקציה.
- ג. תחומי עלייה וירידה של הפונקציה.
- ד. נקודות חיתוך של גרף הפונקציה עם הצירים.
- ה. סרטוט סקיצה של גרף הפונקציה.

**(34)** נתונה הפונקציה  $f(x) = 2e^{\frac{x}{x^2+1}}$ . חקור את הפונקציה על פי הסעיפים הבאים:

- א. מציאת תחום ההגדרה של הפונקציה.
- ב. מציאת נקודות הקיצון של הפונקציה.
- ג. תחומי עלייה וירידה של הפונקציה.
- ד. נקודות חיתוך של גרף הפונקציה עם הצירים.
- ה. מציאת אסימפטוטות המקבילות לצירים.
- ו. סרטוט סקיצה של גרף הפונקציה.
- ז. לאלו ערכי  $m$  יש למשוואה  $f(x) = m$  בדיוק פתרון אחד?

**(35)** נתונה הפונקציה  $f(x) = x^2 e^{\frac{1}{x}}$ . חקור את הפונקציה על פי הסעיפים הבאים:

- א. מציאת תחום ההגדרה של הפונקציה.
- ב. מציאת נקודות הקיצון של הפונקציה.
- ג. תחומי עלייה וירידה של הפונקציה.
- ד. נקודות חיתוך של גרף הפונקציה עם הצירים.
- ה. מציאת אסימפטוטות המקבילות לצירים.
- ו. מציאת נקודות פיתול של הפונקציה.
- ז. כתיבת תחומי הקעירות כלפי מעלה ומטה.

ח. סרטוט סקיצה של גרף הפונקציה.

$$(36) \text{ נתונה הפונקציה: } f(x) = \frac{e^{3x}}{12x^2 + 1}$$

- מצא את תחום ההגדרה של הפונקציה.
- מצא את נקודות הקיצון של הפונקציה וקבע את סוגן.
- כתוב את תחומי עלייה וירידה של הפונקציה.
- מצא את נקודות חיתוך של גרף הפונקציה עם הצירים.
- סרטוט סקיצה של גרף הפונקציה.

$$(37) \text{ שיפוע המשיק לגרף הפונקציה: } f(x) = \frac{1}{e^{3x^2+6x+k}} \text{ בנקודה שבה } x=1 \text{ הוא } -\frac{12}{e^{10}}$$

- מצא את ערך הפרמטר  $k$  וכתוב את הפונקציה.
- מצא את נקודת הקיצון של הפונקציה.
- סרטוט סקיצה של גרף הפונקציה.
- הוכח על סמך הסקיצה את אי-השוויון הבא:  $0 < \frac{1}{e^{3x^2+6x+1}} \leq e^2$ .

(38) נתונה הפונקציה הבאה:  $f(x) = e^{2x} + ae^x + b$ . גוזרים את הפונקציה פעמיים

$$\text{וידוע כי כאשר } x = \ln \frac{2}{3} \text{ הנגזרות מקיימות: } f'(x) + f''(x) = 8$$

- מצא את  $a$ .
- משוואת המשיק לגרף הפונקציה בנקודה מסוימת היא:  $y = 16x + 7 - 16 \ln 2$ .
- מצא את שיעור ה- $x$  של נקודת ההשקה.
- מצא את  $b$ .
- מצא את נקודת החיתוך של הפונקציה עם ציר ה- $x$ .

(39) נתונות הפונקציות הבאות:  $f(x) = 6x - e^x$  ו-  $g(x) = ae^x - e^{2x} + b$ . ידוע כי לשתי הפונקציות נקודת קיצון שבה אותו שיעור  $x$  וכי שתיהן נפגשות על ציר ה- $y$ .

- מצא את ערכי הפרמטרים  $a$  ו- $b$ .
- הראה כי לשתי הפונקציות תחומי עלייה וירידה משותפים.

**(40)** לגרף הפונקציה:  $f(x) = ax^2 \cdot e^{-bx^2}$  יש נקודת קיצון:  $\left(2, \frac{4}{e}\right)$ ,  $a, b \neq 0$ .

- מצא את ערכי הפרמטרים  $a$  ו- $b$  וכתוב את הפונקציה.
- מצא את נקודות הקיצון הנוספות של הפונקציה וקבע את סוגן.
- מצא את נקודות החיתוך של הפונקציה עם הצירים.
- סרטט סקיצה של גרף הפונקציה.
- מעבירים ישר:  $y = k$ . באיזה תחום ערכים צריך להימצא  $k$  כדי שהישר יחתוך את גרף הפונקציה ב-4 נקודות שונות?

**(41)** לפונקציה:  $f(x) = \frac{x^2 - 6x - 7}{e^{ax-1}}$  יש קיצון בנקודה שבה:  $x = 1$ .

- מצא את ערך הפרמטר  $a$ .
- האם יש לגרף הפונקציה נקודות קיצון נוספות? אם כן מצא אותן.
- כתוב את תחומי העלייה והירידה של הפונקציה.
- מצא את נקודות החיתוך של גרף הפונקציה עם הצירים.
- סרטט סקיצה של גרף הפונקציה.

**(42)** הישר  $x = \sqrt{6}$  הוא אסימפטוטה אנכית של הפונקציה:  $f(x) = \frac{e^{2x}}{x^2 + m}$ .

- מצא את ערך הפרמטר  $m$  וכתוב את הפונקציה.
- מצא את נקודות הקיצון של הפונקציה וקבע את סוגן.
- מצא את נקודות החיתוך של גרף הפונקציה עם הצירים.
- סרטט סקיצה של גרף הפונקציה.

**(43)** נתונה הפונקציה:  $f(x) = x^3 \cdot e^{2x}$ .

- מצא את הנקודות המקיימות:  $f'(x) = 0$  וקבע כמה מהן הן נקודות קיצון.
- מצא את האסימפטוטות המקבילות לצירים של הפונקציה.
- סרטט סקיצה של גרף הפונקציה.
- בכמה נקודות חותך הישר  $y = -0.01$  את גרף הפונקציה?

44 נתונה הפונקציה הבאה:  $f(x) = e^{2x} + ae^x + b$ . גוזרים את הפונקציה פעמיים

$$f'(x) + f''(x) = 12 \text{ הנגזרות מקיימות: } x = \ln \frac{2}{3}$$

א. מצא את  $a$ .

משוואת המשיק לגרף הפונקציה בנקודה מסוימת היא:  $y = 22x + 28 - 22 \ln 2$ .

ב. מצא את שיעור ה- $x$  של נקודת ההשקה.

ג. מצא את  $b$ .

ד. האם הפונקציה חותכת את ציר ה- $x$ ? אם כן מצא את הנקודות.

45 נתונה הפונקציה:  $f(x) = x \cdot a^x$ ,  $(a > 0)$ .

$$\text{לפונקציה יש נקודת קיצון שבה: } x = -\frac{1}{\ln 2}$$

א. מצא את  $a$ .

ב. כתוב את תחומי העלייה והירידה של הפונקציה.

הנקודה שבה  $x = 2$  היא נקודת החיתוך של גרף הפונקציה  $f(x)$

$$\text{עם גרף הפונקציה: } g(x) = x^2 \cdot 2^x - kx \cdot 2^x$$

ג. מצא את  $k$ .

ד. מצא נקודה נוספת שבה הגרפים נחתכים.

46 נתונה הפונקציה:  $f(x) = 3^{2x} + 2 \cdot 3^{1-x}$ .

א. מצא את משוואת המשיק לגרף הפונקציה בנקודת החיתוך שלה

עם ציר ה- $y$ .

ב. הוכח כי גרף הפונקציה אינו חותך את ציר ה- $x$ .

ג. מצא את נקודת הקיצון של הפונקציה וקבע את סוגה.

## תשובות סופיות:

$$(11) \quad \text{א. כל } x \quad \text{ב. } x \neq 0 \quad \text{ג. } x \neq \ln 5 \quad \text{ד. } x \neq \ln 2, x \neq 0 \quad \text{ה. כל } x$$

$$\text{ו. } 0 \leq x \neq \frac{2}{5} \quad \text{ז. } x \leq 0, x \geq \ln 3$$

$$(12) \quad \min(0,0), \max\left(-2, \frac{4}{e^2}\right)$$

$$(13) \quad \min(3, e^3)$$

$$(14) \quad \min(1.5,0), \max(3.5,0.483), b=-12, a=4$$

$$(15) \quad p=-27, q=35$$

$$(16) \quad y=0$$

$$(17) \quad y=0$$

$$(18) \quad x=0, y=-5, y=1$$

$$(19) \quad x=\ln 5, y=-\frac{1}{5}$$

$$(20) \quad y=-1, y=1$$

$$(21) \quad \text{נקודת אי הגדרה: } (\ln 2, -1), x=\ln 3, y=-\frac{1}{3}, y=0$$

$$(22) \quad x=0, y=0$$

$$(23) \quad y=0$$

$$(24) \quad x=\frac{1}{3}, y=0$$

$$(25) \quad y=0$$

$$(26) \quad \text{נקודת אי הגדרה: } (0,0), x=0$$

$$(27) \quad \left(3, \frac{10}{e^3}\right), a=1, b=1$$

$$(28) \quad \text{א. כל } x \quad \text{ב. } (1,0), (0,-1) \quad \text{ג. } \min(0,-1) \quad \text{ד. עולה: } x>0 \quad \text{יורדת: } x<0$$

$$\text{ב. כל } x \quad \text{ג. } (0,1) \quad \text{ד. עולה: } x < -1, x > -1 \quad \text{פיתול } \left(-1, \frac{2}{e}\right)$$

$$\text{ג. כל } x \quad \text{ד. } (0,0) \quad \text{א. } \max\left(2, \frac{4}{e}\right), \min(0,0), \max\left(-2, \frac{4}{e}\right)$$

$$\text{ב. עולה: } x < -2, 0 < x < 2 \quad \text{יורדת: } x > 2, -2 < x < 0$$

$$\text{ד. כל } x \quad \text{א. } (0,1) \quad \text{ב. } \min(0.5, e^{-0.25}) \quad \text{ג. עולה: } x > 0.5 \quad \text{יורדת: } x < 0.5$$

- ה.1. כל  $x$  .2.  $(0,1)$  .3.  $\max(0,1)$  .4. עולה:  $x < 0$  יורדת:  $x > 0$
- ו.1. כל  $x$  .2.  $(0, 2e^{-1})$  .3.  $\min(0, 2e^{-1})$  .4. עולה:  $x > 0$  יורדת:  $x < 0$
- (29)** א. כל  $x$  .ב.  $\min(2, -e^2)$  .ג. תחומי עלייה:  $x > 2$  תחומי ירידה:  $x < 2$   
ד.  $(3,0)$  ,  $(0,-3)$
- (30)** א. כל  $x$  .ב.  $\max(0,3)$  ,  $\min(\ln 3, 1.59)$  .ג. תחומי עלייה:  $x > \ln 3$  או  $x < 0$  תחומי ירידה:  $0 < x < \ln 3$  .ד.  $(0,3)$
- (31)** א. כל  $x$  .ב.  $\min\left(-1, -\frac{4}{e^{0.5}}\right)$  ,  $\max\left(1, \frac{4}{e^{0.5}}\right)$  .ג. תחומי עלייה:  $-1 < x < 1$  תחומי ירידה:  $x > 1$  או  $x < -1$  .ד.  $(0,0)$
- (32)** א. כל  $x$  .ב.  $\max\left(3, \frac{27}{e^3}\right)$  .ג. עולה:  $x < 3$  , יורדת:  $x > 3$   
ד.  $(0,0)$
- (33)** א. כל  $x$  .ב.  $\min(-0.91, -0.67)$  .ג. עולה:  $x > -0.91$  יורדת:  $x < -0.91$   
ד.  $(0,0)$
- (34)** א. כל  $x$  .ב.  $\max(1, 2\sqrt{e})$  ,  $\min\left(-1, \frac{2}{\sqrt{e}}\right)$  .ג. עולה:  $-1 < x < 1$  יורדת:  
ד.  $(0,2)$  .ה.  $y = 2$  .ו.  $m = 2$  ,  $m = 2\sqrt{e}$  ,  $m = \frac{2}{\sqrt{e}}$
- (35)** א.  $x \neq 0$  .ב.  $\min\left(\frac{1}{2}, \frac{e^2}{4}\right)$  .ג. עולה:  $x > \frac{1}{2}$  , יורדת:  $0 \neq x < \frac{1}{2}$   
ד. אין
- (36)** א. כל  $x$  .ב.  $\max\left(\frac{1}{6}, \frac{3\sqrt{e}}{4}\right)$  ,  $\min\left(\frac{1}{2}, \frac{e^{1.5}}{4}\right)$  .ג. עולה:  $x > \frac{1}{2}$  ,  $x < \frac{1}{6}$  יורדת:  
ד.  $(0,1)$  .ה.  $\frac{1}{6} < x < \frac{1}{2}$
- (37)** א.  $k = 1$  ,  $f(x) = \frac{1}{e^{3x^2+6x+1}}$  .ב.  $(-1, e^2)$  .ג.  $a = 4$  .ד. ניתן לראות עפ"י הגרף כי ערך הפונקציה  $f(x)$  נמצא בתחום  $0 < f(x) \leq e^2$
- (38)** א.  $a = 4$  .ב.  $x = \ln 2$  .ג.  $b = -5$  .ד.  $(0,0)$
- (39)** א.  $a = 12$  ,  $b = -12$  .ב. עולות:  $x < \ln 6$  יורדות:  $x > \ln 6$

א. (40)  $f(x) = x^2 e^{-\frac{1}{4}x^2}$ ,  $a=1$ ,  $b=0.25$       ב.  $\max\left(-2, \frac{4}{e}\right)$ ,  $\min(0,0)$       ג.

ג.  $(0,0)$       ה.  $0 < k < \frac{4}{e}$

א. (41)  $a = \frac{1}{3}$       ב. כן:  $\left(11, \frac{48}{e^{\frac{2}{3}}}\right)$       ג. עולה:  $1 < x < 11$  יורדת:  $x < 1, x > 11$

ד.  $(-1,0)$ ,  $(7,0)$ ,  $(0,-7e)$

א. (42)  $f(x) = \frac{e^{2x}}{x^2 - 6}$ ,  $m = -6$       ב.  $\max\left(-2, -\frac{1}{2e^4}\right)$ ,  $\min\left(3, \frac{e^6}{3}\right)$       ג.  $\left(0, -\frac{1}{6}\right)$

א. (43)  $x = 0, -1.5$ . נקודת הקיצון היא:  $\min\left(-1.5, -3\frac{3}{8}e^{-3}\right)$       ב.  $y = 0$

ד. 2 נקודות.

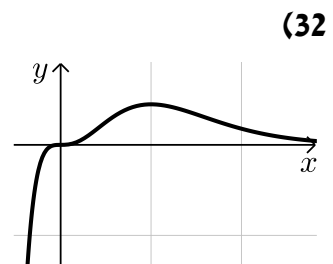
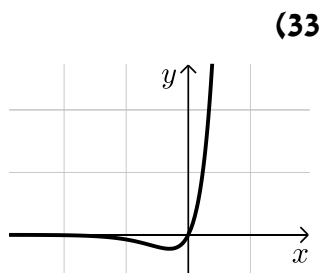
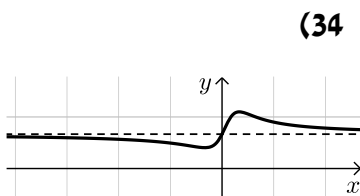
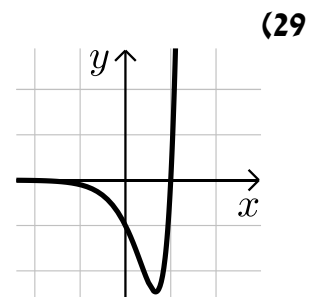
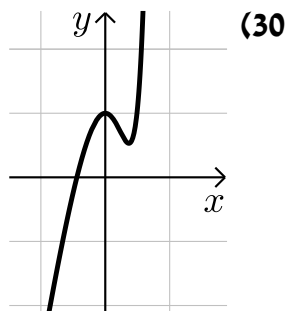
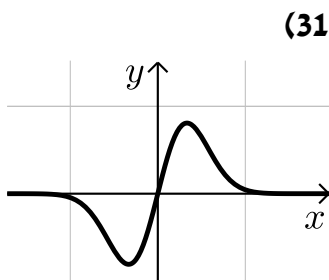
א. (44)  $a = 7$       ב.  $x = \ln 2$       ג.  $b = 10$       ד. לא.

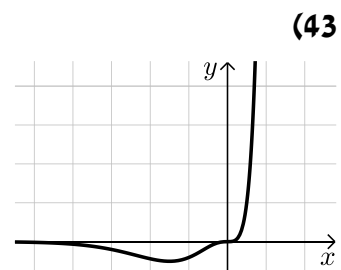
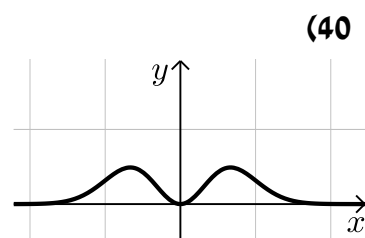
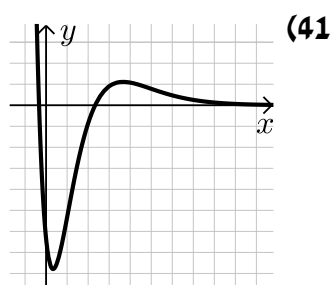
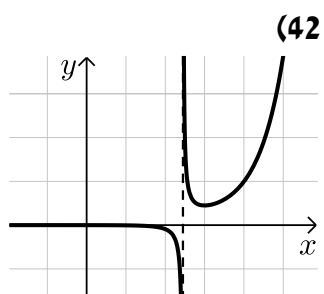
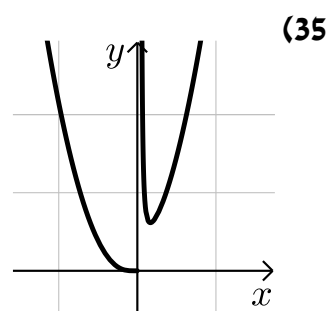
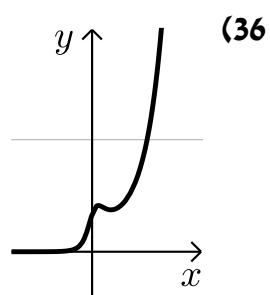
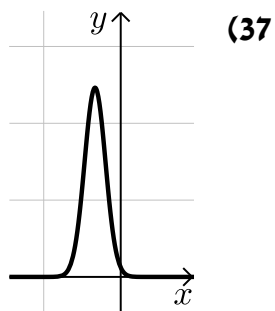
א. (45)  $a = 2$       ב. עולה:  $x > -\frac{1}{\ln 2}$  יורדת:  $x < -\frac{1}{\ln 2}$       ג.  $k = 1$

ד.  $(0,0)$

א. (46)  $y = -x \ln 81 + 7$       ג.  $\min\left(\frac{1}{3}, \sqrt[3]{243}\right)$

סקיצות לשאלות החקירה:





# מכינה למבחן פטור (חדוא 0)

פרק 20 - חשבון דיפרנציאלי - פונקציות לוגריתמיות

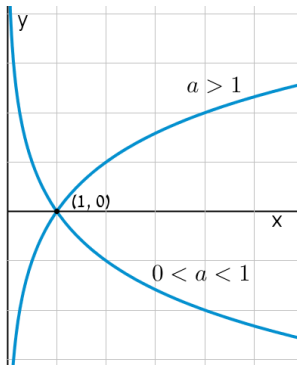
תוכן העניינים

1. הנגזרת של פונקציה לוגריתמית ..... 355
2. שימושי הנגזרת ..... 360
3. חקירה של פונקציה לוגריתמית ..... 361

## הנגזרת של פונקציה לוגריתמית:

**סיכום כללי:**

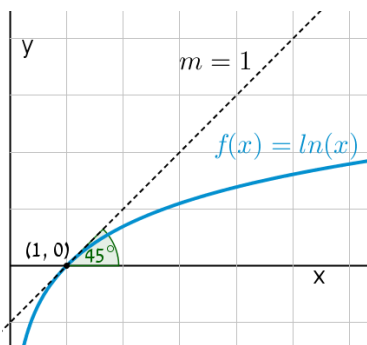
**הגדרות כלליות:**



להלן תיאורים גרפיים של פונקציה לוגריתמית כללית מהצורה:  $f(x) = \log_a x$  עבור  $a > 1$  ו-  $0 < a < 1$ :

**תכונות כלליות:**

- לפונקציות תחום הגדרה  $x > 0$ .
- הפונקציות תמיד חותכות את ציר ה- $x$  בנקודה  $(1, 0)$ .
- עבור  $a > 1$  הפונקציה עולה בכל ת.ה. ועבור  $0 < a < 1$  הפונקציה יורדת בכל ת.ה.



עבור הפונקציות  $f(x) = \ln x = \log_e x$  נקבל כי שיפוע המשיק לגרף הפונקציה בנקודת החיתוך שלה עם ציר ה- $x$  הוא 1:

**תחום הגדרה של פונקציה לוגריתמית:**

תחום ההגדרה של פונקציה לוגריתמית מהצורה:  $y = \log(f(x))$  הוא:  $f(x) > 0$ .

## נגזרות של פונקציות לוגריתמיות:

הפונקציה	הנגזרת
$y = \log_a x$	$y' = \frac{1}{x \ln a}$
$y = \log_a f(x)$	$y' = \frac{f'(x)}{f(x) \ln a}$
$y = \ln x$	$y' = \frac{1}{x}$
$y = \ln f(x)$	$y' = \frac{f'(x)}{f(x)}$

## שאלות:

1) גזור את הפונקציות הבאות (גזירה לוגריתמית יסודית עם ביטויים פנימיים שונים):

א.  $f(x) = 3 \ln x + 4 \ln(x+2) - \ln(5x-1)$     ב.  $f(x) = \ln(x^2 - 3x)$

ג.  $f(x) = \ln \frac{x+1}{x-1}$     ד.  $f(x) = \ln(e^x + 1)$

ה.  $f(x) = \ln(\cos x)$     ו.  $f(x) = \log_2 x + 5 \log_3(2x-1)$

2) גזור את הפונקציות הבאות (מכפלה ומנה של פונקציות):

א.  $f(x) = x \ln x$     ב.  $f(x) = (3x+1)^2 \ln x$     ג.  $f(x) = \frac{\ln x}{x}$

ד.  $f(x) = \frac{\ln x - 2}{\ln x + 2}$     ה.  $f(x) = \sqrt{\ln x + x}$

3) גזור את הפונקציות הבאות (פונקציות מורכבות):

א.  $f(x) = \ln^3 x$     ב.  $f(x) = 3 \ln^2 x$

ג.  $f(x) = x^2 \ln^2 x$     ד.  $f(x) = \frac{\ln^2 x + 1}{(\ln x + 1)^2}$

4) גזור את הפונקציות הבאות (שאלות שונות):

- |                                  |                                     |
|----------------------------------|-------------------------------------|
| א. $f(x) = \ln(x+2)$             | ב. $f(x) = \ln^2 x + 2 \ln x - 3$   |
| ג. $f(x) = x^2 \ln x$            | ד. $f(x) = x^3 \ln x$               |
| ה. $f(x) = \ln e^{2x}$           | ו. $f(x) = e^x \ln x$               |
| ז. $f(x) = e^{-x^2} \ln x$       | ח. $f(x) = x^2(2 \ln x - 1)$        |
| ט. $f(x) = \ln(x^2)$             | י. $f(x) = \ln(x^4)$                |
| יא. $f(x) = (\ln x)^4$           | יב. $f(x) = x \ln x - \ln x^2$      |
| יג. $f(x) = \frac{(\ln x)^2}{x}$ | יד. $f(x) = \ln \sqrt{x}$           |
| טו. $f(x) = \sqrt{\ln x}$        | טז. $f(x) = \frac{\ln x}{\sqrt{x}}$ |

5) גזור את הפונקציות הבאות (שאלות אתגר):

- |  |  |
|--|--|
| א. $f(x) = \ln \frac{x+2}{x}$          | ב. $f(x) = \ln \frac{x-1}{x+1}$          |
| ג. $f(x) = \ln \frac{x-3}{x+3}$        | ד. $f(x) = \ln \frac{(x-5)^3}{(x+1)^2}$  |
| ה. $f(x) = \ln \sqrt{x^2 - 1}$         | ו. $f(x) = \ln(x + \sqrt{x^2 + a^2})$    |
| ז. $f(x) = e^{\sqrt{\ln x}}$           | ח. $f(x) = \ln \sqrt{\frac{1}{2-x}}$     |
| ט. $f(x) = \ln \sqrt{\frac{1-x}{1+x}}$ | י. $f(x) = \ln \sqrt{\frac{1+5x}{1-5x}}$ |
| יא. $f(x) = \frac{\ln \sqrt[3]{x}}{x}$ | יב. $f(x) = \frac{(\ln x)^3}{x}$         |
| יג. $f(x) = \frac{x}{\ln(x^2)}$        | יד. $f(x) = \ln^2 x + \frac{1}{\ln^2 x}$ |
| טו. $f(x) = \frac{x}{\ln^4 x}$         |  |

**תשובות סופיות:**

$$\begin{array}{lll}
 f'(x) = \frac{-2}{(x-1)(x+1)} \cdot \lambda & f'(x) = \frac{2x-3}{x^2-3x} \cdot \text{ב.} & f'(x) = \frac{3}{x} + \frac{4}{x+2} - \frac{5}{5x-1} \cdot \text{א.} \quad (1) \\
 f'(x) = \frac{1}{x \ln 2} + \frac{10}{(2x-1) \ln 3} \cdot \text{ו.} & f'(x) = -\tan x \cdot \text{ה.} & f'(x) = \frac{e^x}{e^x+1} \cdot \text{ד.} \\
 f'(x) = \frac{1-\ln x}{x^2} \cdot \lambda & f'(x) = (3x+1) \left( 6 \ln x + \frac{3x+1}{x} \right) \cdot \text{ב.} & f'(x) = \ln x + 1 \cdot \text{א.} \quad (2) \\
 & f'(x) = \frac{1+x}{2x\sqrt{\ln x+x}} \cdot \text{ה.} & f'(x) = \frac{4}{x(\ln x+2)^2} \cdot \text{ד.} \\
 f'(x) = 2x \ln x (\ln x + 1) \cdot \lambda & f'(x) = \frac{6 \ln x}{x} \cdot \text{ב.} & f'(x) = \frac{3 \ln^2 x}{x} \cdot \text{א.} \quad (3) \\
 & f'(x) = \frac{2(\ln x - 1)}{x(\ln x + 1)^3} \cdot \text{ד.} \\
 x(2 \ln x + 1) \cdot \lambda & \frac{2 \ln x + 2}{x} \cdot \text{ב.} & \frac{1}{x+2} \cdot \text{א.} \quad (4) \\
 e^x \left( \ln x + \frac{1}{x} \right) \cdot \text{ו.} & 2 \cdot \text{ה.} & x^2 (3 \ln x + 1) \cdot \text{ד.} \\
 \frac{4}{x} \cdot \text{ז.} & \frac{2}{x} \cdot \text{ט.} & 4x \ln x \cdot \text{ח.} \\
 e^{-x^2} \left( \frac{1}{x} - 2x \ln x \right) \cdot \text{ז.} \\
 \frac{2 \ln x - \ln^2 x}{x^2} \cdot \text{ג.} & \ln x + 1 - \frac{2}{x} \cdot \text{ב.} & \frac{4(\ln x)^3}{x} \cdot \text{א.} \\
 \frac{2 - \ln x}{2x\sqrt{x}} \cdot \text{ט.} & \frac{1}{2x\sqrt{\ln x}} \cdot \text{טו.} & \frac{1}{2x} \cdot \text{ד.} \\
 \frac{6}{x^2-9} \cdot \text{ג.} & \frac{2}{x^2-1} \cdot \text{ב.} & -\frac{2}{x(x+2)} \cdot \text{א.} \quad (5) \\
 \frac{\sqrt{x^2+a^2}+x}{x\sqrt{x^2+a^2}+x^2+a^2} \cdot \text{ו.} & \frac{x}{x^2-1} \cdot \text{ה.} & \frac{3}{x-5} - \frac{2}{x+1} \cdot \text{ד.} \\
 \frac{1}{x^2-1} \cdot \text{ט.} & \frac{1}{4-2x} \cdot \text{ח.} & \frac{e^{\sqrt{\ln x}}}{2x\sqrt{\ln x}} \cdot \text{ז.}
 \end{array}$$

$$\frac{3 \ln^2 x - \ln^3 x}{x^2} \quad \text{י.ב.}$$

$$\frac{\ln x - 4}{\ln^5 x} \quad \text{ט.ו.}$$

$$\frac{1 - 3 \ln \sqrt[3]{x}}{3x^2} \quad \text{י.א.}$$

$$\frac{2(\ln^4 x - 1)}{x \ln^3 x} \quad \text{י.ד.}$$

$$\frac{5}{1 - 25x^2} \quad \text{י.י.}$$

$$\frac{\ln(x^2) - 2}{\ln^2(x^2)} \quad \text{י.ג.}$$

## שימושי הנגזרת:

### שאלות:

(6) מצא את משוואת המשיק לפונקציה  $f(x) = \ln x$  בנקודה  $A(e, 1)$ .

(7) שיפוע המשיק לפונקציה  $f(x) = \frac{\ln^2 x + a}{\ln x + b}$  בנקודה  $\left(\frac{1}{e}, -1\right)$  הוא  $\frac{e}{3}$ . מצא את ערכי הפרמטרים  $a$  ו- $b$ .

(8) הגרפים של הפונקציות  $f(x) = \ln x$  ו- $g(x) = 1 - x$  נחתכים בנקודה  $A$  ברביע הראשון. בנקודה  $A$  העבירו משיק ל- $f(x)$ . מצא את משוואת המשיק והוכח שמשיק זה עובר דרך הראשית.

(9) לפונקציה  $g(x) = \frac{\ln x^2}{x}$  העבירו משיק בנקודה שבה  $x = e^2$ . מצא את משוואת המשיק.

(10) מצא את משוואת המשיק לגרף הפונקציה  $y = x \ln(x^2 + 1)$  בנקודה שבה  $x = 1$ .

### תשובות סופיות:

(6)  $y = \frac{1}{e}x$

(7)  $a = 2, b = -2$

(8)  $y = \frac{1}{e}x$

(9)  $y = -\frac{2}{e^4}x + \frac{6}{e^2}$

(10)  $y = \ln 2 \cdot x + x - 1$

## חקירה של פונקציה לוגריתמית:

### שאלות:

11 מצא את תחום ההגדרה של הפונקציות הבאות:

א. $f(x) = \ln x$	ב. $f(x) = \ln(x^2)$
ג. $f(x) = \log_3(x^2 - 8x - 20)$	ד. $f(x) = \ln(e^x - 4)$
ה. $f(x) = \frac{x-1}{\ln x - 1}$	ו. $f(x) = \frac{1}{\ln^2 x - 2 \ln x - 3}$
ז. $f(x) = \sqrt{\ln x - 1}$	

12 מצא את נקודות הקיצון של הפונקציה הבאה:  $f(x) = 2 \ln x - x^2$ .

13 מצא את נקודות הקיצון של הפונקציה הבאה:  $f(x) = x^2 \ln x$ .

14 מצא את נקודות הקיצון של הפונקציה הבאה:  $f(x) = \frac{\sqrt{2 \ln x - 1}}{x}$ .

15 מצא את נקודות הקיצון של הפונקציה הבאה:  $f(x) = \log_4^2 x - \log_2 x$ .

16 נתונה הפונקציה:  $f(x) = \frac{a \ln x + b}{x}$ . הנקודה  $(e^2, \frac{1}{e^2})$  היא נקודת קיצון של הפונקציה. מצא את ערכי הפרמטרים  $a$  ו- $b$ .

17 נתונה הפונקציה:  $f(x) = \frac{a \ln^2 x + b \ln x}{(\ln x + 1)^2}$ . הנקודה  $(\sqrt[3]{e}, -\frac{1}{8})$  היא נקודת קיצון של הפונקציה. מצא את ערכי הפרמטרים  $a$  ו- $b$ .

18 מצא את האסימפטוטות של הפונקציה הבאה:  $f(x) = \ln(x-3)$ .

19 מצא את האסימפטוטות של הפונקציה הבאה:  $f(x) = \frac{1}{\ln x - 1}$ .

(20) מצא את האסימפטוטות של הפונקציה הבאה:  $f(x) = \frac{2\ln x - 1}{\ln x + 1}$ .

(21) מצא את האסימפטוטות של הפונקציה הבאה:  $f(x) = \frac{\ln x - 2}{\ln^2 x - 4}$ .

(22) מצא את האסימפטוטות של הפונקציה הבאה:  $f(x) = \frac{\ln x}{x}$ .

(23) מצא את האסימפטוטות של הפונקציה הבאה:  $f(x) = \frac{x^2 - 1}{\ln^2 x + 1}$ .

(24) מצא את האסימפטוטות של הפונקציה הבאה:  $f(x) = x \ln x + 2$ .

(25) נתונה הפונקציה:  $f(x) = \frac{\ln x}{x}$ . מצא את נקודת הפיתול של הפונקציה.

(26) חקור את הפונקציות הבאות עפ"י הסעיפים הבאים:

- i. מציאת תחום ההגדרה של הפונקציה.
- ii. מציאת נקודות החיתוך של גרף הפונקציה עם הצירים.
- iii. מציאת נקודות הקיצון של הפונקציה וקביעת סוגן.
- iv. כתיבת תחומי העלייה והירידה של הפונקציה.

א. $y = \frac{1}{2}x^2 - 4x + 3 \ln x$	ב. $y = x \ln x$
ג. $y = x \ln x - x$	ד. $y = \sqrt{x} \ln x$
ה. $y = x^2 \ln x$	ו. $y = \ln(x^2 + 1)$

**(27)** נתונה הפונקציה  $f(x) = 2x \ln^2 x$ . חקור לפי הסעיפים הבאים:

- א. מציאת תחום ההגדרה של הפונקציה.
- ב. מציאת נקודות הקיצון של הפונקציה וקביעת סוגן.
- ג. כתיבת תחומי העלייה והירידה של הפונקציה.
- ד. נקודות החיתוך של גרף הפונקציה עם הצירים.
- ה. סרטוט סקיצה של גרף הפונקציה.

**(28)** נתונה הפונקציה  $f(x) = \frac{x}{\ln x - 1}$ . חקור לפי הסעיפים הבאים:

- א. תחום הגדרה של הפונקציה.
- ב. מציאת נקודות הקיצון של הפונקציה וקביעת סוגן.
- ג. כתיבת תחומי העלייה והירידה של הפונקציה.
- ד. מציאת נקודות החיתוך של גרף הפונקציה עם הצירים.
- ה. סרטוט סקיצה של גרף הפונקציה.
- ו. מצא לאלו ערכי  $k$  הישר  $y = k$  חותך את הפונקציה בשתי נקודות.

**(29)** נתונה הפונקציה  $f(x) = \log_4^2 x - \log_2 x$ . חקור לפי הסעיפים הבאים:

- א. תחום הגדרה של הפונקציה.
- ב. מציאת נקודות הקיצון של הפונקציה וקביעת סוגן.
- ג. כתיבת תחומי העלייה והירידה של הפונקציה.
- ד. מציאת נקודות החיתוך של גרף הפונקציה עם הצירים.
- ה. סרטוט סקיצה של גרף הפונקציה.

**(30)** נתונה הפונקציה:  $f(x) = \sqrt{\ln x}$ .

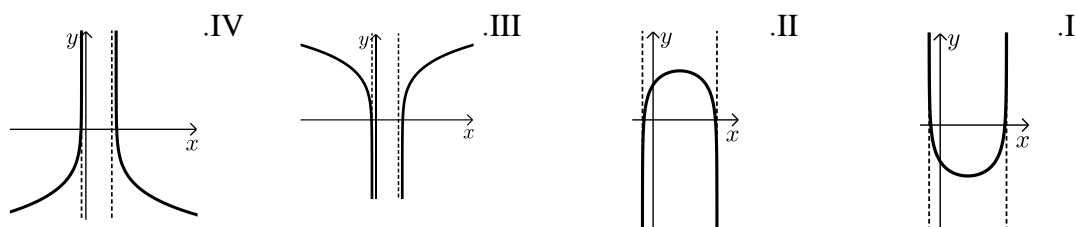
- א. מהו תחום ההגדרה של הפונקציה?
- ב. הוכח כי גרף הפונקציה עולה בכל תחום הגדרתו.
- ג. מגדירים פונקציה נוספת:  $g(x) = \ln x$ .
- ד. מצא את נקודות החיתוך של שני הגרפים.
- ה. הנקודה A נמצאת על גרף הפונקציה  $f(x)$  והנקודה B נמצאת על גרף הפונקציה  $g(x)$ . ידוע כי לנקודות A ו-B אותו שיעור  $x$ ,  $(x_A = x_B)$ .
- ו. מצא את שיעור ה- $x$  של שתי הנקודות אם ידוע כי המשיקים לגרפים של הפונקציות בנקודות אלו מקבילים.

**31** נתונה שתי הפונקציות הבאות:  $f(x) = \frac{x}{\ln x}$ ,  $g(x) = \frac{\ln x}{x}$ .

- א. קבע אילו מהמשפטים הבאים נכונים ואלו שגויים.  
 נמק זאת ע"י חישוב מתאים ותקן במשפטים השגויים את הטעות.
- לשתי הפונקציות אותו תחום הגדרה.
  - לשתי הפונקציות יש נקודת קיצון מאותו סוג ובעלות שיעור  $x$  זהה.
  - לשתי הפונקציות תחומי עלייה וירידה זהים.
  - לשתי הפונקציות יש אסימפטוטות אנכיות.
- ב. בחרים באקראי שתי נקודות, אחת על כל גרף, כך ששיעור ה- $x$  שלהן זהה. הוכח כי מכפלת שיעורי ה- $y$  של כל זוג נקודות כאלו שווה ל-1.

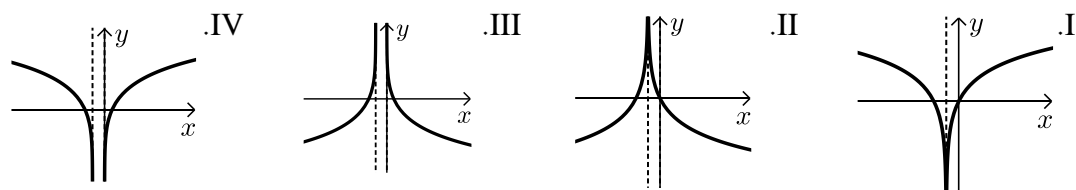
**32** נתונה הפונקציה הבאה:  $y = \ln(x^2 - 6x - 7)$ .

- א. מצא את תחום ההגדרה של הפונקציה.  
 ב. מהן האסימפטוטות של הפונקציה המקבילות לציר ה- $y$ ?  
 ג. מצא את תחומי העלייה והירידה של הפונקציה.  
 ד. לפניך 4 גרפים: I, II, III, ו-IV. איזה מהגרפים מתאים לפונקציה הנתונה. נמק.



**33** נתונה הפונקציה:  $y = \ln(x^2 + 2x + 1)$ .

- א. מצא את תחום ההגדרה של הפונקציה.  
 ב. מהי האסימפטוטה של הפונקציה המקבילה לציר ה- $y$ ?  
 ג. מצא את תחומי העלייה והירידה של הפונקציה.  
 ד. לפניך 4 גרפים: I, II, III, ו-IV. איזה מהגרפים מתאים לפונקציה הנתונה. נמק.



ה. העזר בגרף שבחרת וכתוב את תחומי השליליות של הפונקציה.

34 לפניך הפונקציה הבאה :  $f(x) = \ln(1 - \ln x)$ .

- מה הוא תחום ההגדרה של הפונקציה?
- הוכח כי הפונקציה יורדת בכל תחום הגדרתה.
- מצא את נקודות החיתוך של גרף הפונקציה עם ציר ה- $x$ .
- סרטט סקיצה של גרף הפונקציה.

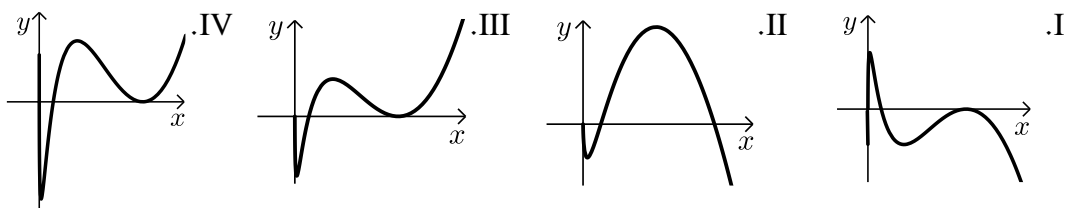
35 נתונה הפונקציה הבאה :  $y = \ln \frac{2x+1}{x-1}$ .

- מצא את תחום ההגדרה של הפונקציה.
- כתוב את האסימפטוטות האנכיות של גרף הפונקציה.
- מצא את נקודות החיתוך של גרף הפונקציה עם ציר ה- $x$ .
- הראה כי גרף הפונקציה יורד בכל תחום הגדרתו.
- סרטט סקיצה של גרף הפונקציה.

36 נתונה הפונקציה הבאה :  $f(x) = x(\ln^3 x + 2\ln^2 x)$ .

- הראה כי נגזרת הפונקציה היא :  $f'(x) = \ln^3 x + 5\ln^2 x + 4\ln x$ .
- מצא את התחום בו הפונקציה עולה.
- ענה על השאלות הבאות :
  - מצא את נקודות החיתוך של הפונקציה עם ציר ה- $x$ .
  - מצא את התחום בו הפונקציה חיובית.

ד. לפניך 4 גרפים. קבע איזה מהם מתאר את הפונקציה  $f(x)$  ונמק את בחירתך.



37 נתונה הפונקציה :  $f(x) = \ln^3 x - 3\ln x$ .

- מה הוא תחום ההגדרה של הפונקציה.
- מצא את נקודות החיתוך של הפונקציה עם ציר ה- $x$ .
- מצא את נקודות הקיצון של הפונקציה וקבע את סוגן.
- סרטט סקיצה של גרף הפונקציה.
- מצא את נקודות החיתוך של גרף הפונקציה  $f(x)$  עם הפונקציה  $g(x) = \ln x$ .

38) ענה על הסעיפים הבאים :

א. פתור את המשוואה הבאה :  $\ln(x+e) - \ln(x\sqrt{e}) = \ln 2 - 0.5$

נתונה הפונקציה :  $f(x) = \ln(x+e) - \ln(x\sqrt{e})$

ב. הראה כי הפונקציה יורדת בכל תחום הגדרתה.

ג. מצא את משוואת המשיק לגרף הפונקציה בנקודה שבה :  $x = e$ .

39) נתונה הפונקציה הבאה :  $y = \frac{x+a}{\ln(x+a)}$  , פרמטר חיובי,  $a \neq 1$

א. הבע באמצעות  $a$  את :

i. תחום ההגדרה של הפונקציה.

ii. הנקודה המקיימת  $y' = 0$ .

iii. נקודת החיתוך של גרף הפונקציה עם הצירים.

iv. האסימפטוטה האנכית של הפונקציה.

ב. ידוע כי גרף הפונקציה עולה רק בתחום :  $x > e - 2$ . מצא את  $a$ .

ג. סרטט סקיצה של גרף הפונקציה בתחום  $x > -1$ .

ד. נתון הישר :  $y = k$ . מצא בסקיצה את תחום הערכים של  $k$  עבורו לישר ולגרף הפונקציה לא תהיה אף נקודה משותפת.

40) נתונה הפונקציה הבאה :  $y = \ln x + \frac{1}{x}$

א. ענה על הסעיפים הבאים :

i. מהו תחום ההגדרה של הפונקציה?

ii. יש לגרף הפונקציה אסימפטוטה מקבילה לציר  $y$  ?

אם כן מצא אותה.

ב. מצא את נקודת הקיצון של גרף הפונקציה וקבע את סוגה.

ג. כתוב את תחומי העלייה והירידה של גרף הפונקציה.

**תשובות סופיות:**

(11) א.  $x > 0$     ב.  $x \neq 0$     ג.  $x > 10$  או  $x < -2$     ד.  $x > \ln 4$

ה.  $0 < x \neq e$     ו.  $x > 0$  וגם  $x \neq e^3, e^{-1}$     ז.  $x \geq e$

(12)  $\max(1, -1)$

(13)  $\min\left(\frac{1}{\sqrt{e}}, -\frac{1}{2e}\right)$

(14)  $\max\left(e, \frac{1}{e}\right)$  קצה,  $\min(\sqrt{e}, 0)$

(15)  $\min(4, -1)$

(16)  $a = 1, b = -1$

(17)  $a = 1, b = -1$

(18)  $x = 3$

(19) נקודת אי הגדרה  $(0, 0)$ ,  $y = 0, x = e$

(20) נקודת אי הגדרה  $(0, 2)$ ,  $y = 2, x = \frac{1}{e}$

(21) נקודת אי הגדרה  $(e^2, \frac{1}{4})$ ,  $(0, 0)$ ;  $y = 0, x = \frac{1}{e^2}$

(22)  $x = 0, y = 0$

(23) נקודת אי הגדרה  $(0, 0)$

(24) נקודת אי הגדרה  $(0, 2)$

(25)  $\left(\sqrt{e^3}, \frac{3}{2\sqrt{e^3}}\right)$

(26) א. i.  $x > 0$     iii.  $\max(1, -3.5), \min(3, \ln 27 - 7.5)$

iv. עולה:  $0 < x < 1, x > 3$  יורדת:  $1 < x < 3$     ב. i.  $x > 0$     ii.  $(1, 0)$

iii.  $\min(e^{-1}, -e^{-1})$     iv. עולה:  $x > e^{-1}$  יורדת:  $0 < x < e^{-1}$

ג. i.  $x > 0$     ii.  $(e, 0)$     iii.  $\min(1, -1)$     iv. עולה:  $x > 1$  יורדת:  $0 < x < 1$

ד. i.  $x > 0$     ii.  $(1, 0)$     iii.  $\min\left(e^{-2}, -\frac{2}{e}\right)$     iv. עולה:  $x > e^{-2}$  יורדת:  $0 < x < e^{-2}$

ה. i.  $x > 0$  ii.  $(1, 0)$  iii.  $\min\left(\frac{1}{\sqrt{e}}, -\frac{1}{2e}\right)$  iv. עולה:  $x > \frac{1}{\sqrt{e}}$  יורדת:  $0 < x < \frac{1}{\sqrt{e}}$

ו. i. כל  $x$  ii.  $(0, 0)$  iii.  $\min(0, 0)$  iv. עולה:  $x > 0$  יורדת:  $x < 0$

(27) א.  $x > 0$  ב.  $\max\left(\frac{1}{e^2}, \frac{8}{e^2}\right), \min(1, 0)$

ג. עלייה:  $x > 1$  או  $0 < x < \frac{1}{e^2}$ , ירידה:  $\frac{1}{e^2} < x < 1$  ד.  $(1, 0)$

(28) א.  $0 < x \neq e$  ב.  $\min(e^2, e^2)$  ג. עלייה:  $x > e^2$ , ירידה:

$0 < x < e^2$  וגם  $x \neq e$  ד. אין. ו.  $k > e^2$

(29) א.  $x > 0$  ב.  $\min(4, -1)$  ג. עלייה:  $x > 4$ , ירידה:  $0 < x < 4$

ד.  $(1, 0), (16, 0)$

(30) א.  $x \geq 1$  ב. מתקבל:  $f'(x) = \frac{1}{2x\sqrt{\ln x}} > 0$  ג.  $(1, 0), (e, 1)$

ד.  $x = \sqrt[4]{e}$

(31) א. i. לא נכון. תחום ההגדרה של  $f(x)$  הוא:  $x > 0, x \neq 1$  ותחום ההגדרה

של  $g(x)$  הוא:  $x > 0$ .

ii. לא נכון. לשתי הפונקציות נקודת קיצון שבה  $x = e$  אך עבור  $f(x)$  מדובר

במינימום ועבור  $g(x)$  מדובר במקסימום.

iii. לא נכון. עבור  $f(x)$ : עולה:  $x > e$  יורדת:  $0 < x < e, x \neq 1$ .

ועבור  $g(x)$ : עולה:  $0 < x < e$  יורדת:  $x > e$ . iv. נכון.

ב. לגבי כל נקודה נאמר כי שיעור ה- $y$  שלה הוא:  $y = \frac{x}{\ln x}$  ו- $y = \frac{\ln x}{x}$ .

נכפול:  $y = \frac{x}{\ln x} \cdot \frac{\ln x}{x} = 1$

(32) א.  $x < -1, x > 7$  ב.  $x = -1, 7$  ג. עולה:  $x > 7$  יורדת:  $x < -1$

ד. III. הסבר: באיורים I ו-II גרף הפונקציה לא בתחום.

באיור IV תחומי העלייה והירידה הפוכים.

(33) א.  $x \neq -1$  ב.  $x = -1$  ג. עולה:  $x > -1$  יורדת:  $x < -1$

ד. I. הסבר: באיור II תחומי העלייה והירידה הפוכים.

באיורים III ו-IV יש אסימפטוטה מיותרת. ה.  $x \neq -1, -2 < x < 0$

34 א.  $0 < x < e$ . (שימו לב כי תנאי ת.ה. הם:  $1 - \ln x > 0$  וגם  $x > 0$ ).

ב.  $f'(x) = \frac{-\frac{1}{x}}{1 - \ln x} = -\frac{1}{x(1 - \ln x)} < 0$ . ולכן הפונקציה יורדת בת.ה.  
ג.  $(1, 0)$ .

35 א.  $x < -\frac{1}{2}, x > 1$ . ב.  $x = -\frac{1}{2}, 1$ . ג.  $(-2, 0)$ .

ד. מתקבל:  $y' = \frac{-3}{(2x+1)(x-1)} < 0$ .

36 ב.  $x > 1, e^{-4} < x < e^{-1}$ .

ג. i. 2 נקודות והן:  $(e^{-2}, 0)$ ,  $(1, 0)$ . הנקודה שבה:  $x = 0$  לא קיימת עקב ת.ה.

ii.  $x \neq 1, x > e^{-2}$ . ד. III – בראשית הצירים יש חור ולא אסימפטוטה.

שאר הנתונים כפי שהתקבלו בסעיפים הקודמים.

37 א.  $x > 0$ . ב.  $(e^{-\sqrt{3}}, 0)$ ,  $(1, 0)$ ,  $(e^{\sqrt{3}}, 0)$ . ג.  $\min(e, -2)$ ,  $\max(e^{-1}, 2)$ .

ה.  $(1, 0)$ ,  $(e^2, 2)$ ,  $(e^{-2}, -2)$ .

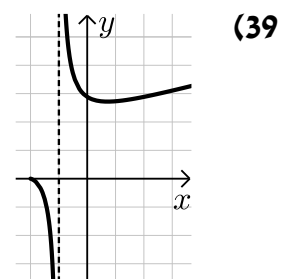
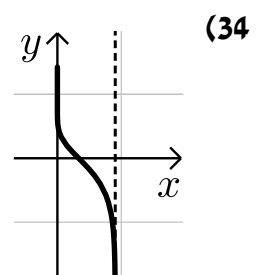
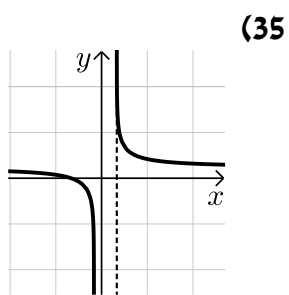
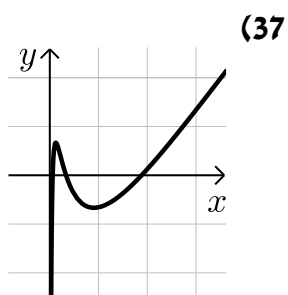
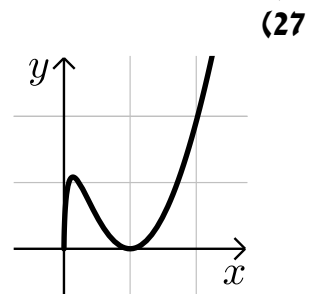
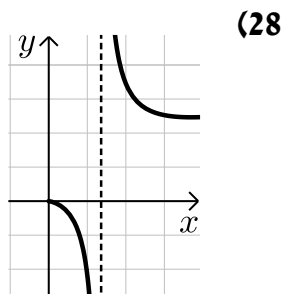
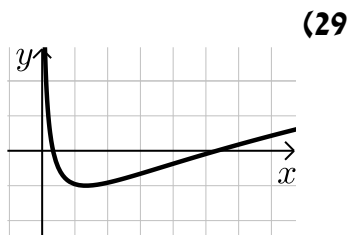
38 א.  $x = e$ . ב. מתקבל:  $y' = \frac{-e}{x(x+e)} < 0$ . ג.  $y = -\frac{1}{2e}x + \ln 2$ .

39 א. i.  $x > -a, x \neq 1 - a$ . ii.  $(e - a, e)$ . iii.  $(0, \frac{a}{\ln a})$ .

iv.  $x = 1 - a$ . ב.  $a = 2$ . ד.  $k < e$ .

40 א. i.  $x > 0$ . ii.  $x = 0$ . ב.  $\min(1, 1)$ . ג. עולה:  $x > 1$ , יורדת:  $0 < x < 1$ .

## סקיצות לשאלות:



# מכינה למבחן פטור (חדוא 0)

פרק 21 - חשבון דיפרנציאלי - פונקצית חזקה עם מעריך רציונאלי

תוכן העניינים

- 1. הנגזרת של פונקצית חזקה עם מעריך רציונאלי. 371 .....
- 2. שימושי הנגזרת. 374 .....
- 3. חקירה של פונקצית חזקה. 376 .....

## הנגזרת של פונקציות חזקה עם מעריך רציונאלי:

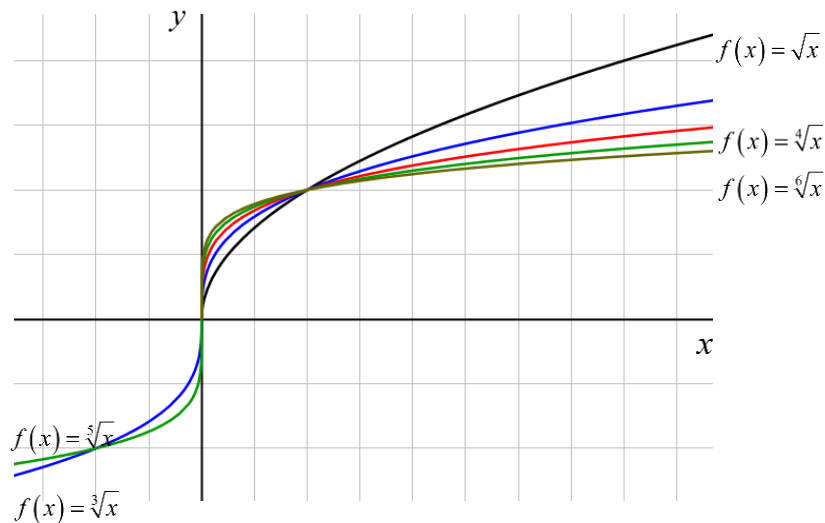
**סיכום כללי:**

**הגדרות כלליות:**

הצורה הכללית של פונקציות חזקה עם מעריך רציונאלי:  $f(x) = x^{\frac{m}{n}}$ .

תזכורת:  $\sqrt[n]{a^m} = (\sqrt[n]{a})^m = a^{\frac{m}{n}}$ .

להלן מספר דוגמאות לפונקציה מהצורה:  $f(x) = x^{\frac{1}{n}} = \sqrt[n]{x}$ .



**תכונות כלליות:**

1. פונקציית חזקה:  $f(x) = x^{\frac{m}{n}}$  מוגדרת לכל  $x$  עבור  $n$  אי-זוגי ומוגדרת לכל  $x \geq 0$  עבור  $n$  זוגי.
2. הפונקציה:  $f(x) = (ax+b)^{\frac{m}{n}}$  מוגדרת לכל  $x$  עבור  $n$  אי-זוגי ולכל  $x \geq -\frac{b}{a}$  עבור  $n$  זוגי.

**נגזרת של פונקציות חזקה:**

הפונקציה	הנגזרת
$y = x^{\frac{m}{n}}$	$y' = \frac{m}{n} x^{\frac{m}{n}-1}$
$y = (ax+b)^{\frac{m}{n}}$	$y' = a \cdot \frac{m}{n} (ax+b)^{\frac{m}{n}-1}$

**שאלות:**

(1) כתוב את תחום ההגדרה של הפונקציות הבאות:

א.  $y = \sqrt[4]{x}$     ב.  $y = \sqrt[7]{x}$     ג.  $y = \sqrt[3]{x+1}$     ד.  $y = \sqrt[8]{2-3x}$   
 ה.  $y = \frac{1}{\sqrt[6]{x}}$     ו.  $y = \frac{1}{\sqrt[7]{x}}$     ז.  $y = \frac{3x}{\sqrt[3]{3x+7}}$     ח.  $y = \frac{x^2-2x}{\sqrt[20]{(2x-4)^3}}$

(2) גזור את הפונקציות הבאות:

א.  $y = 4x + \sqrt[4]{x}$     ב.  $y = 27 - \sqrt[3]{x+1}$   
 ג.  $y = (x+2)^2 \cdot \sqrt[3]{x}$     ד.  $y = (3-x^3) \cdot \sqrt[6]{x}$   
 ה.  $y = \sqrt[3]{(3x+1)^5}$     ו.  $y = \sqrt[10]{(8-7x)^7}$   
 ז.  $y = (x^2-4) \cdot \sqrt[8]{(4x+3)^3}$     ח.  $y = x^3 \cdot \sqrt[7]{1-x}$   
 ט.  $y = \frac{6}{\sqrt[5]{x+2}}$     י.  $y = \frac{2}{\sqrt[7]{(4-3x)^4}}$

(3) גזור פעמיים את הפונקציות הבאות:

א.  $f(x) = \sqrt[3]{x^2}$     ב.  $f(x) = \sqrt[3]{x^2-1}$   
 ג.  $f(x) = \sqrt[3]{x^2}(1-x)$

## תשובות סופיות:

$$(1) \quad \text{א. } x \geq 0 \quad \text{ב. כל } x \quad \text{ג. כל } x \quad \text{ד. } x \leq \frac{2}{3}$$

$$\text{ה. } x > 0 \quad \text{ו. } x \neq 0 \quad \text{ז. } x \neq -\frac{7}{3} \quad \text{ח. } x > 2$$

$$(2) \quad \text{א. } y' = 4 + \frac{1}{4\sqrt{x^3}} \quad \text{ב. } y' = -\frac{1}{3\sqrt{(x+1)^2}} \quad \text{ג. } y' = \frac{(x+2)(7x+2)}{3\sqrt{x^2}}$$

$$\text{ד. } y' = \frac{3-19x^3}{6\sqrt{x^5}} \quad \text{ה. } y' = 5\sqrt{(3x+1)^2} \quad \text{ו. } y' = -\frac{49}{10\sqrt{(8-7x)^3}}$$

$$\text{ז. } y' = \frac{9.5x^2 + 6x - 6}{\sqrt[8]{(4x+3)^5}} \quad \text{ח. } y' = \frac{21x^2 - 22x^3}{7\sqrt{(1-x)^6}} \quad \text{ט. } y' = -\frac{6}{5\sqrt{(x+2)^6}}$$

$$\text{י. } y' = \frac{24}{7\sqrt{(4-3x)^{11}}}$$

$$(3) \quad \text{א. } f'(x) = \frac{2}{3\sqrt[3]{x}}, f''(x) = -\frac{2}{9\sqrt[3]{x^4}}$$

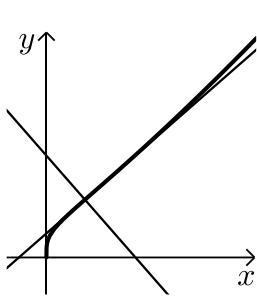
$$\text{ב. } f'(x) = \frac{2}{3\sqrt[3]{(x^2-1)^2}}, f''(x) = -\frac{2}{9} \frac{x^2+3}{(x^2-1)^{5/3}}$$

$$\text{ג. } f'(x) = \frac{2-5x}{3\sqrt[3]{x}}, f''(x) = -\frac{2}{9} \cdot \frac{1+5x}{\sqrt[3]{x^4}}$$

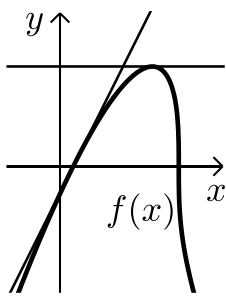
## שימושי הנגזרת:

### שאלות:

- 4) לפניך מספר פונקציות.  
מצא את ערך הנגזרת של הפונקציה בנקודה המצוינת לידה:
- א.  $y = \frac{10}{\sqrt[5]{x^4}}$  ;  $x = 1$   
ב.  $y = 2x + \sqrt[3]{3x-1}$  ;  $x = 3$
- 5) מצא את משוואת המשיק לגרף הפונקציה  $y = \sqrt[4]{6-x} - x$  בנקודה שבה  $x = -10$ .



- 6) באיור שלפניך נתונה הפונקציה הבאה:  $f(x) = (2x+4) \cdot \sqrt[4]{x}$ .
- א. מצא את משוואת המשיק לגרף הפונקציה העובר דרך  $(1, 6)$ .
- ב. מצא את משוואת הנורמל לפונקציה בנקודה  $(1, 6)$ .
- ג. חשב את השטח הנוצר ע"י שני הישרים והצירים.



- 7) באיור שלפניך מתואר הגרף של הפונקציה:  $f(x) = (x-1) \cdot \sqrt[3]{9-x}$ .
- א. מצא נקודה על הפונקציה ששיפוע המשיק העובר דרכה הוא 0.
- ב. כתוב את משוואת המשיק העובר דרך הנקודה שמצאת בסעיף הקודם.
- ג. כתוב את משוואת המשיק לגרף הפונקציה העובר דרך נקודת החיתוך שלה עם ציר ה- $x$  הקרובה יותר לראשית.
- ד. חשב את שטח המשולש הנוצר בין שני המשיקים שמצאת וציר ה- $y$ .

- 8) נתונה הפונקציה הבאה:  $f(x) = \sqrt[4]{2x+7} - Ax^2$ , ( $A$  פרמטר).  
ידוע כי שיפוע המשיק לגרף הפונקציה בנקודה שבה  $x = 4.5$  הוא  $m = -\frac{1}{2}$ .  
מצא את  $A$ .

- (9) נתונה הפונקציה:  $f(x) = \frac{\sqrt[5]{1-x}}{Ax+B}$  (פרמטרים  $A, B$ ). משוואת המשיק לגרף הפונקציה דרך הנקודה:  $x=2$  היא:  $45y = 2x - 19$ . מצא את  $A$  ואת  $B$ .

**תשובות סופיות:**

- (4) א. -8      ב. 2.25
- (5)  $33x + 32y - 54 = 0 \leftarrow y = -\frac{33}{32}x + 1\frac{11}{16}$
- (6) א.  $y = 3.5x + 2.5$       ב.  $y = -\frac{2}{7}x + 6\frac{2}{7}$       ג. 67.25 סמ"ר
- (7) א.  $(7, 6\sqrt[3]{2})$       ב.  $y = 6\sqrt[3]{2}$       ג.  $y = 2x - 2$       ד. 22.84 סמ"ר
- (8)  $A = \frac{1}{16}$
- (9)  $A = B = 1$

## חקירה של פונקציות חזקה:

### שאלות:

**10** חקור את הפונקציה:  $f(x) = (x^2 - 36)\sqrt[4]{x}$  לפי הסעיפים הבאים:

- תחום הגדרה.
- מציאת נקודות חיתוך עם הצירים.
- מציאת נקודות קיצון מקומיות (פנימיות) וקצה וקביעת סוגן.
- מציאת תחומי העלייה והירידה.
- מציאת אסימפטוטות אנכיות.
- סרטוט סקיצה.

**11** חקור את הפונקציה:  $f(x) = \frac{\sqrt[5]{8x-2}}{x^2+1}$  לפי הסעיפים הבאים:

- תחום הגדרה.
- מציאת נקודות חיתוך עם הצירים.
- מציאת נקודות קיצון מקומיות (פנימיות) וקצה וקביעת סוגן.
- מציאת תחומי העלייה והירידה.
- מציאת אסימפטוטות אנכיות.
- סרטוט סקיצה.

**12** נתונה הפונקציה:  $f(x) = \sqrt[3]{x} + \sqrt[6]{x} - 6$ .

- מהו תחום ההגדרה של הפונקציה?
- מצא את נקודות החיתוך של הפונקציה עם הצירים.
- הוכח כי הפונקציה עולה בכל תחום הגדרתה.
- סרטוט סקיצה של גרף הפונקציה.
- מגדירים פונקציה נוספת:  $g(x) = -f(x)$ . קבע לגבי כל טענה האם היא נכונה או שגויה. נמק.
  - לשתי הפונקציות אותו תחום הגדרה.
  - שתי הפונקציות חותכות את הצירים באותן הנקודות.
  - שתי הפונקציות עולות בכל תחום הגדרתן.

- 13** נתונה הפונקציה:  $f(x) = x^3 + k\sqrt[3]{x} + 8$ ,  $k$  פרמטר.
- ידוע כי הפונקציה חותכת את ציר ה- $x$  בנקודה שבה:  $x = -2.741$ .
- מצא את ערך הפרמטר  $k$ , עגל למספר שלם.
  - הראה כי אחת מנקודות הקיצון של הפונקציה נמצאת גם היא על ציר ה- $x$ .
  - כתוב את תחומי העלייה והירידה של הפונקציה.
  - סרטט סקיצה של גרף הפונקציה.
  - העזר בסקיצה וקבע כמה פתרונות יהיו למשוואה הבאה:  $x^3 - 9\sqrt[3]{x} = 8$ .

- 14** נתונות הפונקציות הבאות:  $f(x) = (x-2)^2$ ,  $g(x) = \sqrt[3]{2x+2.6}$ .
- מצא את נקודות החיתוך של הפונקציות עם ציר ה- $x$ .
  - מגדירים פונקציה חדשה:  $h(x) = f(x) \cdot g(x)$ .
  - כתוב מפורשות את הפונקציה  $h(x)$  ואת תחום הגדרתה.
  - מצא את נקודות הקיצון של הפונקציה  $h(x)$ .
  - סרטט סקיצה של גרף הפונקציה  $h(x)$ .
  - מצא עבור אלו ערכים של  $k$  יחתוך הישר  $y = k$  את גרף הפונקציה ב-3 נקודות שונות.

- 15** נתונה הפונקציה הבאה:  $f(x) = \frac{5x^2 - 66x - 440}{\sqrt[3]{x}}$ .
- מהו תחום ההגדרה של הפונקציה?  
האם יש לפונקציה אסימפטוטה אנכית?
  - האם הפונקציה חותכת את הצירים בתחום:  $[0:18]$ ? נמק ע"י חישוב.
  - מצא את נקודות הקיצון של הפונקציה.
  - סרטט סקיצה של גרף הפונקציה.
  - מגדירים פונקציה נוספת  $g(x)$  המקיימת:  $g(x) = -f(x)$ .
- לפניך מספר טענות המתייחסות לפונקציה  $g(x)$ . קבע אלו מהטענות הבאות נכונות ואלו שגויות. נמק ע"י הסבר או חישוב מתאים.
- $g(x)$  חיובית בכל התחום  $[0:18]$ .
  - ל- $g(x)$  אותן נקודות קיצון (אותם שיעורים ואותו סוג) כמו  $f(x)$ .
  - ל- $g(x)$  אותו תחום הגדרה כמו ל- $f(x)$ .

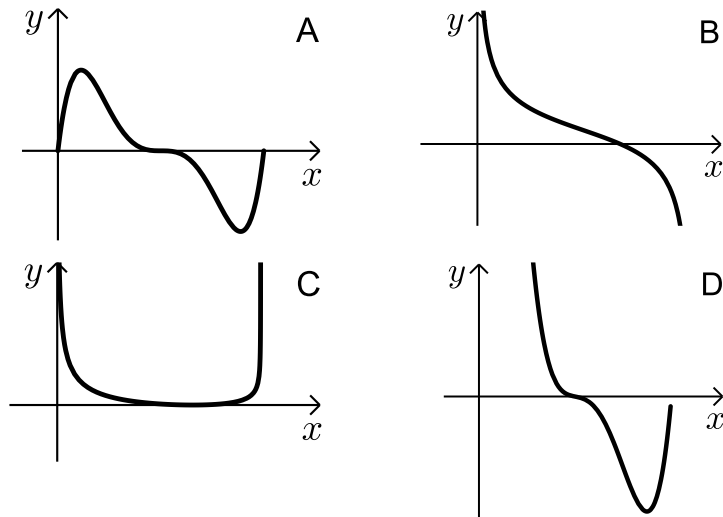
16 נתונה הפונקציה הבאה:  $f(x) = \sqrt{x} \cdot \sqrt[4]{9-x}$ .

- א. מה הוא תחום ההגדרה של הפונקציה?  
 ב. מצא את נקודות הקיצון של הפונקציה (מקומיות וקצה) וקבע את סוגן.  
 ג. כתוב את תחומי העלייה והירידה של הפונקציה.  
 ד. על סמך הסעיפים הקודמים קבע כמה פתרונות יש למשוואה הבאה:  $\sqrt{x} \cdot \sqrt[4]{9-x} = k$  כאשר:

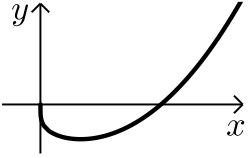
i.  $k = -2$

ii.  $k = 1$

- ה. קבע איזה מבין הגרפים הבאים (A-D) מתאר את הנגזרת של הפונקציה. נמק.

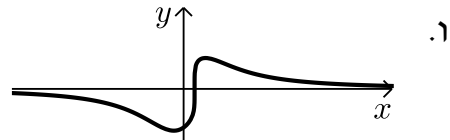


**תשובות סופיות:**

**(10)** א.  $x \geq 0$     ב.  $(0,0)$  ,  $(6,0)$     ג.  $\min(2,-38)$     ד. יורדת:  $0 < x < 2$  , עולה:  $x > 2$     ה. אין.    ו. 

**(11)** א. כל  $x$     ב.  $(0,-1.14)$  ,  $(0.25,0)$     ג.  $\max(0.5,0.91)$  ,  $\min(-\frac{2}{9},-1.24)$

ד. יורדת:  $x > \frac{1}{2}$  ,  $x < -\frac{2}{9}$  , עולה:  $-\frac{2}{9} < x < \frac{1}{2}$     ה. אין



**(12)** א.  $x \geq 0$     ב.  $(0,-6)$  ,  $(64,0)$     ג. הנגזרת:  $f'(x) = \frac{1+2\sqrt[6]{x}}{6x^{5/6}} > 0$  בת.ה.

ה. i. נכון    ה. ii. לא נכון, החיתוך עם ציר ה- $y$  שונה.    ה. iii. לא נכון.

**(13)** א.  $k = -9$     ב.  $\min(1,0)$  ,  $\max(-1,16)$     ג. עולה:  $x < -1$  ,  $x > 1$

יורדת:  $-1 < x < 1$     ה. 2.

**(14)** א.  $(-1.3,0)$  ,  $(2,0)$     ב.  $h(x) = (x-2)^2 \sqrt[5]{2x+2.6}$  , כל  $x$

ג.  $\min(2,0)$  ,  $\max(-1,8.126)$     ה.  $0 < k < 8.126$

**(15)** א.  $x = 0$  ,  $x > 0$  אסימפטוטה אנכית.    ב. לא

ג.  $\min(4,-495.27)$  ,  $\max(2,-491.77)$     ה. i. נכון    ה. ii. לא נכון.

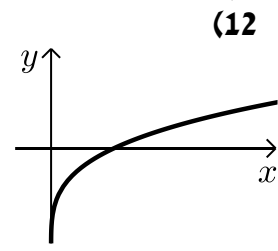
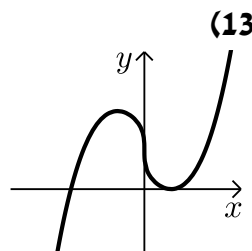
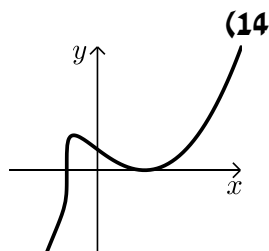
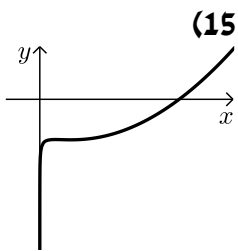
ה. iii. נכון.

**(16)** א.  $0 \leq x \leq 9$     ב.  $\min(0,0)$  , קצה,  $\min(9,0)$  קצה.

ג. עולה:  $0 < x < 6$  , יורדת:  $6 < x < 9$     ד. i.  $k = -2$  אין פתרון.

ii.  $k = 1$  שני פתרונות.    ה. B.

**סקיצות לשאלות:**



# מכינה למבחן פטור (חדוא 0)

פרק 22 - חשבון אינטגרלי - האינטגרל הכללי

תוכן העניינים

1. חישובי אינטגרלים ..... 380
2. מציאת פונקציה קדומה ..... 385

## חישובי אינטגרלים:

### סיכום כללי:

#### הגדרה וכללי האינטגרציה:

- כלל האינטגרציה של פונקציה פולינומית:  $\int x^n dx = \frac{x^{n+1}}{n+1} + c, (n \neq -1)$
- עבור מקדם קבוע  $a$  נקבל:  $\int ax^n dx = \frac{ax^{n+1}}{n+1} + c, (n \neq -1)$
- כללי האינטגרציה של פונקציות טריגונומטריות:

$$\int \sin x dx = -\cos x + c, \quad \int \cos x dx = \sin x + c, \quad \int \frac{1}{\cos^2 x} dx = \tan x + c, \quad \int \frac{1}{\sin^2 x} dx = -\cot x + c$$

### שאלות:

#### 1 מצא את האינטגרלים הבאים:

א. $\int x^3 dx$	ב. $\int 12x^5 dx$
ג. $\int x^4 dx$	ד. $\int 2x^3 dx$
ה. $\int \frac{2}{3} x^5 dx$	ו. $\int 7 dx$
ז. $\int \left( \frac{5}{6} x^4 + 16x^3 - \frac{x^2}{2} + 4x - \frac{1}{3} \right) dx$	ח. $\int \left( \frac{4x^3}{5} - ax^2 - \frac{2ax}{b} + b \right) dx$

#### 2 מצא את האינטגרלים הבאים:

א. $\int x^{-3} dx$	ב. $\int \frac{1}{x^3} dx$
ג. $\int \left( \frac{1}{x^2} + \frac{3}{x^4} - \frac{a}{x^3} + \frac{x}{a} \right) dx$	ד. $\int \frac{2x^3 + x - 2}{x^3} dx$

(3) מצא את האינטגרלים הבאים :

$$\begin{array}{ll} \int \sqrt{x} dx & \text{ב.} \\ \int \left( \frac{4}{\sqrt{x}} + 3\sqrt{x} \right) dx & \text{ד.} \end{array} \quad \begin{array}{ll} \int x^{\frac{1}{2}} dx & \text{א.} \\ \int \frac{1}{\sqrt{x}} dx & \text{ג.} \end{array}$$

(4) מצא את האינטגרלים הבאים :

$$\begin{array}{lll} \int \frac{18}{(6x+5)^2} dx & \text{ג.} & \int 3(2-7x)^4 dx & \text{ב.} & \int (5x-1)^3 dx & \text{א.} \\ & & \int \sqrt{ax+bdx} & \text{ה.} & \int \frac{1}{\sqrt{6x-3}} dx & \text{ד.} \end{array}$$

(5) מצא את תוצאת החילוק :

$$\begin{array}{ll} \frac{x^3+x^2+3x-5}{x-1} = & \text{ב.} \\ \frac{x^3-4x^2+9}{x-3} = & \text{ד.} \end{array} \quad \begin{array}{ll} \frac{x^2-5x-14}{x+2} = & \text{א.} \\ \frac{x^4+x^3-x^2+14x-3}{x+3} = & \text{ג.} \\ \frac{x^3+5x^2-4x-20}{x+5} = & \text{ה.} \end{array}$$

(6) מצא את האינטגרלים הבאים :

$$\begin{array}{ll} \int \frac{x^3+x^2+3x-5}{x-1} dx & \text{ב.} \\ \int \frac{x^3-4x^2+9}{x-3} dx & \text{ד.} \\ \int \frac{2x^5+x^4-4x^2+1}{2x+1} dx & \text{ו.} \end{array} \quad \begin{array}{ll} \int \frac{x^2-5x-14}{x+2} dx & \text{א.} \\ \int \frac{x^4+x^3-x^2+14x-3}{x+3} dx & \text{ג.} \\ \int \frac{x^3+5x^2-4x-20}{x+5} dx & \text{ה.} \end{array}$$

(7) מצא את האינטגרלים הבאים :

$$\begin{array}{ll} \int \frac{x^2}{(x^3+6)^2} dx & \text{ב.} \\ \int \frac{x}{\sqrt{x^2+2}} dx & \text{ד.} \\ \int 8x(x^2+1)^3 dx & \text{ו.} \end{array} \quad \begin{array}{ll} \int -\frac{2x}{(x^2-1)^2} dx & \text{א.} \\ \int \frac{x-2}{(x^2-4x+1)^2} dx & \text{ג.} \\ \int \frac{6x-3}{\sqrt{x-x^2}} dx & \text{ה.} \\ \int (2-x^2)(6x-x^3)^2 dx & \text{ז.} \end{array}$$

8) חשב את האינטגרלים הבאים :

א.  $\int \left( \sin x - 3 \cos x + \frac{4}{\cos^2 x} + 5 \right) dx$

ב.  $\int \left( \cos 3x - 2 \sin 4x + \frac{4}{\cos^2 3x} \right) dx$

ג.  $\int \left( \sin(\pi - x) + \frac{1 + \cos^2 x}{\cos^2 x} \right) dx$

9) חשב את האינטגרלים הבאים (שימוש בזהויות) :

א.  $\int (2 \sin x \cos x) dx$

ב.  $\int (\sin 3x \cos 3x) dx$

ג.  $\int (\sin^4 x - \cos^4 x) dx$

ד.  $\int (\sin^2 x) dx$

10) חשב את האינטגרלים הבאים :

א.  $\int \left( \frac{\cos x}{\sqrt{\sin x}} \right) dx$

ב.  $\int \left( \frac{\sin x}{\cos^2 x} \right) dx$

ג.  $\int (\cos x \sin^2 x) dx$

11) חשב את האינטגרלים הבאים :

א.  $\int \left( \sin 2x - 4 \cos \frac{x}{3} \right) dx$

ב.  $\int \frac{1}{\cos^2 4x} dx$

ג.  $\int \frac{1}{\sin^2 10x} dx$

ד.  $\int (\cos^2 x - \sin^2 x) dx$

ה.  $\int (\cos^4 x - \sin^4 x) dx$

ו.  $\int (\cos x + \sin x)^2 dx$

ז.  $\int (\sin x \cos x \cos(2x)) dx$

ח.  $\int \tan^2 x dx$

ט.  $\int \frac{1}{(\sin x \cos x)^2} dx$

י.  $\int \cos^2 x dx$

יא.  $\int \sin^2 4x dx$

(12) חשב את ערכי האינטגרלים הבאים (שאלות אתגר):

$$\int (\cos^4 x + \sin^4 x) dx \quad \text{א.} \quad \int \cos^4 x dx \quad \text{ב.}$$

$$\int \sin^4 4x dx \quad \text{ג.} \quad \int \frac{1 + \cos 2x}{1 - \cos 2x} dx \quad \text{ד.}$$

$$\int \frac{\sin^3 x}{1 - \cos x} dx \quad \text{ה.}$$

## תשובות סופיות:

$$7x + c \quad \text{א.} \quad \frac{x^6}{9} + c \quad \text{ה.} \quad \frac{x^4}{2} + c \quad \text{ד.} \quad \frac{x^5}{5} + c \quad \text{ג.} \quad 2x^6 + c \quad \text{ב.} \quad \frac{x^4}{4} + c \quad \text{א.} \quad (1)$$

$$\frac{x^4}{5} - \frac{ax^3}{3} - \frac{ax^2}{b} + bx + c \quad \text{ה.} \quad \frac{x^5}{6} + 4x^4 - \frac{x^3}{6} + 2x^2 - \frac{1}{3}x + c \quad \text{ו.}$$

$$.2x - \frac{1}{x} + \frac{1}{x^2} + c \quad \text{ד.} \quad -\frac{1}{x} - \frac{1}{x^3} + \frac{a}{2x^2} + \frac{x^2}{2a} + c \quad \text{ג.} \quad -\frac{1}{2x^2} + c \quad \text{ב.} \quad -\frac{x^{-2}}{2} + c \quad \text{א.} \quad (2)$$

$$.8\sqrt{x} + 2\sqrt{x^3} + c \quad \text{ד.} \quad 2\sqrt{x} + c \quad \text{ג.} \quad \frac{2}{3}\sqrt{x^3} + c \quad \text{ב.} \quad \frac{x^{1.5}}{1.5} + c \quad \text{א.} \quad (3)$$

$$-\frac{3}{6x+5} + c \quad \text{א.} \quad -\frac{3(2-7x)^5}{35} + c \quad \text{ב.} \quad \frac{(5x-1)^4}{20} + c \quad \text{א.} \quad (4)$$

$$\frac{2\sqrt{(ax+b)^3}}{3a} + c \quad \text{ה.} \quad \frac{\sqrt{6x-3}}{3} + c \quad \text{ד.}$$

$$x^3 - 2x^2 + 5x - 1 \quad \text{א.} \quad x^2 + 2x + 5 \quad \text{ב.} \quad x - 7 \quad \text{א.} \quad (5)$$

$$x^2 - 4 \quad \text{ה.} \quad x^2 - x - 3 \quad \text{ד.}$$

$$\frac{x^4}{4} - \frac{2x^3}{3} + \frac{5x^2}{2} - x + c \quad \lambda \quad \frac{x^3}{3} + x^2 + 5x + c \quad \text{ב.} \quad \frac{x^2}{2} - 7x + c \quad \text{א.} \quad (6)$$

$$\cdot \frac{x^5}{5} - x^2 + x + c \quad \text{ו.} \quad \frac{x^3}{3} - 4x + c \quad \text{ה.} \quad \frac{x^3}{3} - \frac{x^2}{2} - 3x + c \quad \text{ז.}$$

$$-\frac{1}{2(x^2 - 4x + 1)} + c \quad \lambda \quad -\frac{1}{3(x^3 + 6)} + c \quad \text{ב.} \quad \frac{1}{x^2 - 1} + c \quad \text{א.} \quad (7)$$

$$(x^2 + 1)^4 + c \quad \text{ו.} \quad -6\sqrt{x - x^2} + c \quad \text{ה.} \quad \sqrt{x^2 + 2} + c \quad \text{ז.}$$

$$\cdot \frac{(6x - x^3)^3}{9} + c \quad \text{ט.}$$

$$\frac{\sin 3x}{3} + \frac{\cos 4x}{2} + \frac{4 \tan 3x}{3} + c \quad \text{ב.} \quad -\cos x - 3 \sin x + 4 \tan x + 5x + c \quad \text{א.} \quad (8)$$

$$\cdot \cos(\pi - x) + \tan x + x + c \quad \text{ג.}$$

$$-\frac{\sin 2x}{2} + c \quad \lambda \quad -\frac{\cos 6x}{12} + c \quad \text{ב.} \quad -\frac{1}{2} \cos 2x + c \quad \text{א.} \quad (9)$$

$$\cdot \frac{1}{2}x - \frac{1}{4} \sin 2x + c \quad \text{ז.}$$

$$\cdot \frac{1}{3} \sin^3 x + c \quad \lambda \quad \frac{1}{\cos x} + c \quad \text{ב.} \quad 2\sqrt{\sin x} + c \quad \text{א.} \quad (10)$$

$$-\frac{1}{10} \cot 10x + c \quad \lambda \quad \frac{1}{4} \tan 4x + c \quad \text{ב.} \quad -\frac{1}{2} \cos 2x - 12 \sin \frac{x}{3} + c \quad \text{א.} \quad (11)$$

$$x - \frac{1}{2} \cos 2x + c \quad \text{ו.} \quad \frac{1}{2} \sin 2x + c \quad \text{ה.} \quad \frac{1}{2} \sin 2x + c \quad \text{ז.}$$

$$\tan x - \cot x + c \quad \text{ט.} \quad \tan x - x + c \quad \text{ח.} \quad -\frac{1}{16} \cos 4x + c \quad \text{ט.}$$

$$\frac{1}{2}x - \frac{1}{16} \sin 8x + c \quad \text{א.} \quad \frac{1}{2}x + \frac{1}{4} \sin 2x + c \quad \text{ז.}$$

$$\frac{3}{8}x + \frac{1}{4} \sin 2x + \frac{1}{32} \sin 4x + c \quad \text{ב.} \quad \frac{3}{4}x + \frac{1}{16} \sin 4x + c \quad \text{א.} \quad (12)$$

$$-\cot x - x + c \quad \text{ז.} \quad \frac{3}{8}x - \frac{1}{16} \sin 8x + \frac{1}{128} \sin 16x + c \quad \text{ג.}$$

$$-\cos x - \frac{1}{4} \cos 2x + c \quad \text{ה.}$$

## מציאת פונקציה קדומה:

### שאלות:

- (1) נתונה נגזרת של פונקציה:  $f'(x) = 3x^2 - 7$ . מצא את הפונקציה אם ידוע שהיא עוברת בנקודה  $(-1, 2)$ .
- (2) נתונה נגזרת של פונקציה:  $f'(x) = 2x - 6$ . ערך הפונקציה בנקודת הקיצון שלה הוא 5. מצא את הפונקציה.
- (3) הנגזרת של פונקציה  $f(x)$  היא:  $f'(x) = x^2 - 8x + 2$ . נתון:  $f(-2) = 1$ .  
 א. מצא את  $f(x)$ .  
 ב. מצא את משוואת המשיק לגרף הפונקציה בנקודה שבה  $x = 1$ .
- (4) נתונה הנגזרת של פונקציה  $f(x)$ :  $f'(x) = 9x^2 - 4$ . ערך הפונקציה בנקודה  $x = 1$  הוא 3.  
 א. מצא את משוואת המשיק לגרף הפונקציה בנקודה שבה  $x = 1$ .  
 ב. מצא את  $f(x)$ .  
 ג. מצא את נקודות החיתוך של המשיק עם הצירים.
- (5) הנגזרת של פונקציה  $f(x)$  היא:  $f'(x) = 2x - 3$ . לפונקציה משיק ששיפועו הוא -3.  
 א. מצא את שיעור ה- $x$  של נקודת ההשקה.  
 ב. מצא את  $f(x)$  אם ידוע כי ערך הפונקציה באותה הנקודה הוא 7.
- (6) הנגזרת של פונקציה  $f(x)$  היא:  $f'(x) = -6x - 5$ . המשיק לפונקציה בנקודה A יוצר זווית של  $45^\circ$  עם הכיוון החיובי של ציר ה- $x$ .  
 א. מצא את שיעור ה- $x$  של הנקודה A.  
 ב. מצא את  $f(x)$  אם ידוע כי ערך הפונקציה באותה הנקודה הוא -6.  
 ג. מצא את משוואת המשיק.

- (7) הנגזרת של פונקציה  $f(x)$  היא:  $f'(x) = 3x - 4$ .  
 הישר  $y = 2x + 5$  משיק לגרף הפונקציה. מצא את  $f(x)$ .

### תשובות סופיות:

- (1)  $f(x) = x^3 - 7x + 5$
- (2)  $f(x) = x^2 - 6x + 14$
- (3) א.  $f(x) = \frac{x^3}{3} - 4x^2 + 2x + 23\frac{2}{3}$  ב.  $y = -5x + 27$
- (4) א.  $y = 5x - 2$  ב.  $f(x) = 3x^3 - 4x + 4$  ג.  $(0, -2), (0.4, 0)$
- (5) א.  $x = 0$  ב.  $f(x) = x^2 - 3x + 7$
- (6) א.  $x = -1$  ב.  $f(x) = -3x^2 - 5x - 8$  ג.  $y = x - 5$
- (7)  $f(x) = \frac{3x^2}{2} - 4x + 11$

# מכינה למבחן פטור (חדוא 0)

פרק 23 - חשבון אינטגרלי - האינטגרל המסוים וחישובי שטחים

תוכן העניינים

1. האינטגרל המסוים ..... 387
2. חישובי שטחים יסודיים ..... 389
3. חישובי שטחים יסודיים עם פרמטרים ..... 395
4. חישובי שטחים כאשר נתונה נגזרת הפונקציה ..... 397
5. חישובי שטחים עם פונקציה רציונאלית ..... 400
6. חישובי שטחים עם פונקצית שורש ..... 402
7. חישובי שטחים עם פונקציות טריגונומטריות ..... 406
8. חישובי שטחים בין גרף הנגזרת והצירים ..... 409

## האינטגרל המסוים:

### סיכום כללי:

תהא פונקציה  $f(x)$  שנגזרתה היא  $f'(x)$  ( $f(x)$  מוגדרת בתחום  $a \leq x \leq b$ ).  
 הקשר שבין האינטגרל המסוים לפונקציה קדומה הוא:  $\int_a^b f'(x) dx = f(b) - f(a)$ .

### הערה:

יש להשתמש בכל כללי האינטגרציה המיידיים של הפונקציות השונות אשר נלמדו.

### שאלות:

(1) חשב את ערכי הביטויים הבאים:

א. $\int_2^5 (x^2 + 5x) dx$	ב. $\int_{-4}^{-1} x^2 (x-3) dx$
ג. $\int_{-3}^3 (x^3 + 4x) dx$	ד. $\int_{-1}^1 3(2x-1)^5 dx$
ה. $\int_1^2 \frac{2}{(x-3)^2} dx$	ו. $\int_1^4 \frac{x-1}{x^3} dx$
ז. $\int_{-3}^0 \frac{2x^2 + 7x - 4}{x+4} dx$	ח. $\int_3^4 \frac{3x^2 - 7x + 2}{x-2} dx$
ט. $\int_1^2 \sqrt{3x-1} dx$	י. $\int_{-5}^0 \frac{3}{\sqrt{4-x}} dx$

(2) חשב את ערכי הביטויים הבאים:

א. $\int_0^{\pi} (\cos x) dx$	ב. $\int_0^{\pi} (\sin 2x + 1) dx$
ג. $\int_{-\frac{\pi}{2}}^{\frac{\pi}{2}} (2 \sin x - 3 \cos 2x) dx$	ד. $\int_0^{\frac{\pi}{3}} \left( \frac{3}{\cos^2 x} + 2 \right) dx$

$$(3) \quad \int_1^a (4x-7) dx \quad \text{לפניך האינטגרל הבא:}$$

מצא עבור אלו ערכים של  $a$  ערך האינטגרל יהיה שווה ל-1.

$$(4) \quad \int_a^2 (x-3x^2) dx \quad \text{לפניך האינטגרל הבא:}$$

א. כתוב ביטוי לערך האינטגרל כתלות ב- $a$ .

ב. מצא עבור אלו ערכים של  $a$  ערך האינטגרל יהיה שווה ל- $\frac{a-12}{2}$ .

$$(5) \quad \int_a^{a+4} \left( \frac{1}{\sqrt{x-a}} - \frac{1}{\sqrt{x+1}} \right) dx \quad \text{לפניך האינטגרל הבא:}$$

א. כתוב את ערך האינטגרל כתלות ב- $a$ .

ב. מצא את ערכו של  $a$  עבורו ערך האינטגרל יהיה שווה ל-2.

$$(6) \quad \int_0^a (\sin x + 2 \cos 2x) dx \quad \text{לפניך האינטגרל הבא:} \quad 0 < a < 3$$

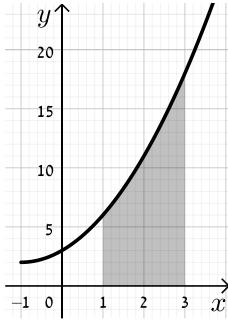
מצא עבור אלו ערכים של  $a$  ערך האינטגרל יהיה שווה ל-1.

### תשובות סופיות:

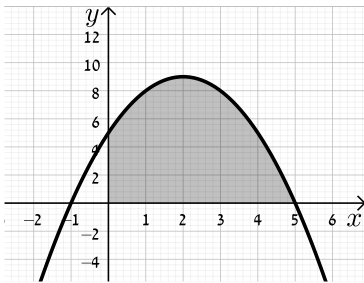
- (1) א. 91.5    ב. -126.75    ג. 0    ד. -182    ה. 1  
 ו.  $\frac{9}{32}$     ז. -12    ח. 9.5    ט. 1.856    י. 6.
- (2) א. 0    ב.  $\pi$     ג. 0    ד.  $3\sqrt{3} + \frac{2}{3}\pi \approx 7.29$
- (3)  $a = 2, 1.5$
- (4) א.  $a^3 - \frac{1}{2}a^2 - 6$     ב.  $a = 0, 1, -\frac{1}{2}$
- (5) א.  $4 + 2(\sqrt{a+1} - \sqrt{a+5})$     ב.  $a = 1\frac{1}{4}$
- (6)  $a = \frac{\pi}{6}, \frac{\pi}{2}, \frac{5\pi}{6}$

## חישובי שטחים יסודיים:

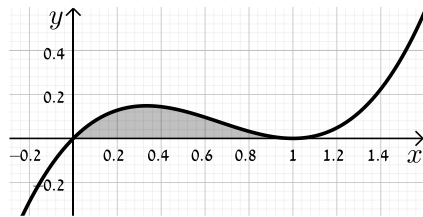
### שאלות:



- (1) חשב את השטח המוגבל בין גרף הפונקציה  $f(x) = x^2 + 2x + 3$ , ציר ה- $x$  והישרים  $x = 1$  ו- $x = 3$ .

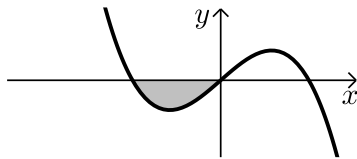


- (2) נתונה הפונקציה  $y = -x^2 + 4x + 5$ .  
 א. מצא את נקודות החיתוך של הפונקציה עם ציר ה- $x$ .  
 ב. מצא את השטח המוגבל בין גרף הפונקציה, ציר ה- $x$  וציר ה- $y$ .

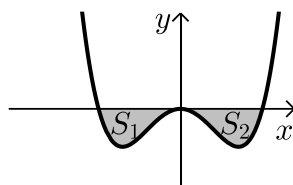


- (3) מצא את השטח המוגבל תחת הפונקציה  $f(x) = x^3 - 2x^2 + x$  וציר ה- $x$  כמתואר באיור.

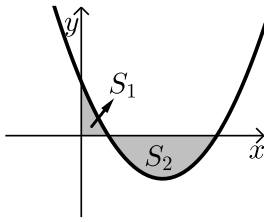
### שאלות עם שטח מתחת לציר ה- $x$ :



- (4) נתונה הפונקציה  $f(x) = x(4 - x^2)$ . חשב את השטח המוגבל שמתחת הפונקציה וציר ה- $x$  שברביע השלישי.



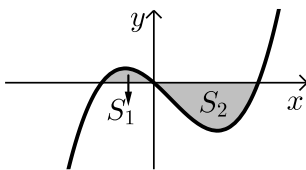
- (5) נתונה הפונקציה  $f(x) = \frac{1}{2}x^4 - 2x^2$ . חשב את השטח המוגבל שבין הפונקציה לציר ה- $x$ .



- 6) חשב את האינטגרל המסוים של הפונקציה  $y = x^2 - 6x + 5$  בין 0 ל-5. האם התוצאה מייצגת את סכום השטחים  $S_1 + S_2$ ? אם כן, הסבר. אם לא, נמק וחשב את סכום זה.

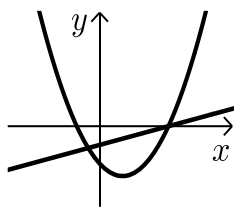
- 7) נתונה הפונקציה  $y = x^3 - x^2 - 2x$ .

יוצרים את השטחים  $S_1$  ו- $S_2$  בין גרף הפונקציה וציר ה- $x$  כמתואר באיור.

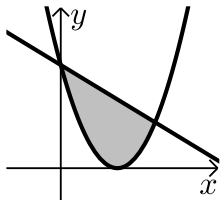


- א. מצא את נקודות החיתוך של הפונקציה עם ציר ה- $x$ .  
ב. חשב את השטח הכלוא בין גרף הפונקציה וציר ה- $x$ .

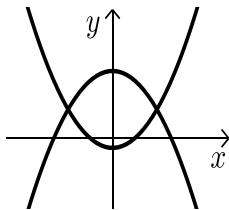
**שאלות עם שטחים בין שתי פונקציות:**



- 8) נתונות הפונקציות הבאות:  $f(x) = x^2 - 4x - 12$  ו- $g(x) = x - 6$ . חשב את גודל השטח הכלוא בין הגרפים של הפונקציות הנ"ל.



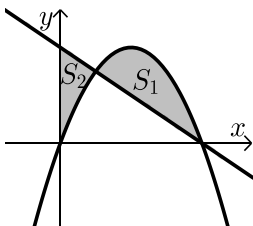
- 9) נתונות הפונקציות:  $y = (x-3)^2$ ,  $y = -x + 9$ . חשב את השטח המוגבל בין שתי הפונקציות.



- 10) נתונות הפונקציות:  $f(x) = x^2 - 1$ ,  $g(x) = 7 - x^2$ . חשב את גודל השטח הכלוא בין הגרפים של הפונקציות הנ"ל.

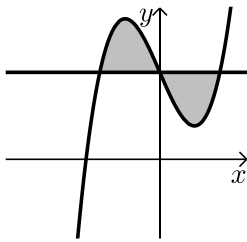
- 11) נתונות הפונקציות הבאות:  $f(x) = -x^2 + 4x$  ו- $g(x) = -x + 4$ .

מסמנים את השטח הכלוא בין שני הגרפים ב- $S_1$  ואת השטח הכלוא בין הגרפים וציר ה- $y$  ב- $S_2$  כמתואר באיור.

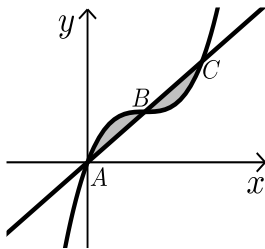


א. מצא את נקודות החיתוך של הפונקציות.

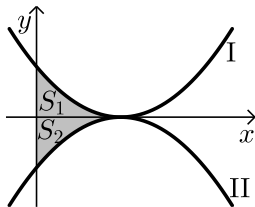
ב. חשב את היחס שבין השטחים:  $\frac{S_1}{S_2}$ .



- 12** נתונה הפונקציה:  $f(x) = x^3 - 4x + 5$  והישר  $y = 5$ .
- מצא את נקודות החיתוך של הפונקציה והישר.
  - חשב את השטח המוגבל ביניהן.

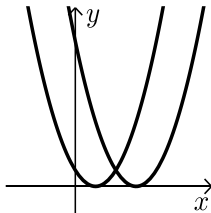


- 13** נתונה הפונקציה:  $f(x) = x^3 - 3x^2 + 3x$ .
- הישר AC חותך את גרף הפונקציה בנקודות  
הבאות:  $A(0,0)$ ,  $B(1,1)$ ,  $C(2,2)$ .
- חשב את השטח המוגבל בין הפונקציה לישר AC.

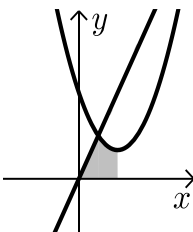


- 14** נתונות הפונקציות  $f(x) = (x-2)^2$  ו-  $g(x) = -(x-2)^2 - 1$  כמתואר באיור.
- התאם בין הפונקציות לגרפים I ו-II.
  - מסמנים את השטחים שבין כל פונקציה והצירים ב-  $S_1$  ו-  $S_2$  כמתואר באיור. הראה כי השטחים  $S_1$  ו-  $S_2$  שווים זה לזה.

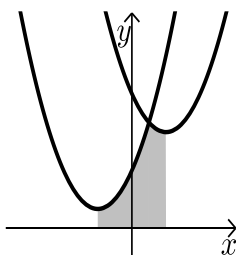
**שאלות עם שטחים מורכבים:**



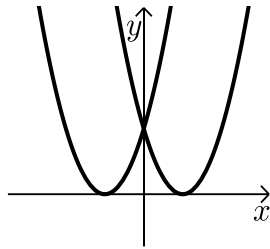
- 15** נתונות הפונקציות:  $f(x) = x^2 - 2x + 1$ ,  $g(x) = x^2 - 6x + 9$ .
- חשב את גודל השטח הכלוא בין הפונקציות  
ובין ציר ה- $x$ .



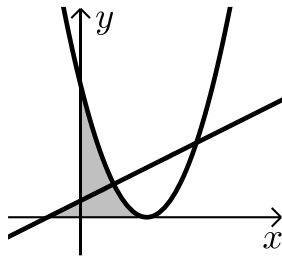
- 16** נתונות הפונקציות:  $y = x^2 - 4x + 6$ ,  $y = 3x$ .
- מצא את קדקוד הפרבולה.
  - מצא נקודת חיתוך של הפרבולה עם הישר שמשמאל לקדקוד הפרבולה.
  - חשב את השטח המסומן שבשרטוט.



- 17** נתונות הפונקציות:  $y = x^2 - 4x + 14$ ,  $y = x^2 + 4x + 6$ .
- מצא את שיעורי ה- $x$  של קודקודי הפרבולות.
  - חשב את נקודת החיתוך בין שתי הפונקציות.
  - חשב את השטח המסומן בשרטוט.



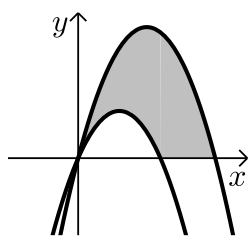
**(18)** נתונות הפונקציות:  $f(x) = (x-3)^2$ ,  $g(x) = (x+3)^2$ .  
חשב את השטח המוגבל בין שתי הפונקציות וציר ה- $x$ .



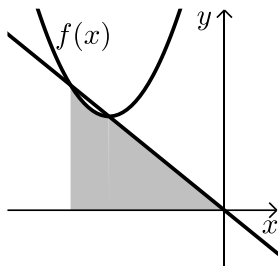
**(19)** נתונות שתי הפונקציות:  $y = \frac{1}{2}x + \frac{1}{2}$ ,  $y = (x-2)^2$ .

א. מצא את השטח המוגבל בין שתי הפונקציות לציר ה- $x$ .

ב. מצא את השטח המוגבל בין שתי הפונקציות לציר ה- $y$ .



**(20)** נתונות הפרבולות הבאות:  $f(x) = -x^2 + 5x$  ו- $g(x) = -x^2 + 3x$ .  
חשב את השטח המוגבל בין הגרפים של הפרבולות וציר ה- $x$ .



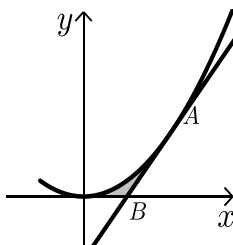
**(21)** נתונה הפונקציה:  $f(x) = x^2 + 6x + 12$ .

ישר העובר בראשית הצירים חותך את גרף הפונקציה בנקודה שבה  $x = -4$  כמתואר באיור.

א. מצא את משוואת הישר.

ב. מצא את נקודת החיתוך השנייה של הישר והפונקציה.

ג. מצא את השטח המוגבל בין הישר, גרף הפונקציה, ציר ה- $x$  והישר  $x = -4$ .

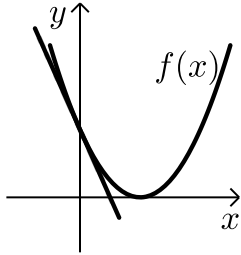


**(22)** נתונה הפונקציה:  $y = 2x^2$ .

מעבירים משיק לגרף הפונקציה מהנקודה:  $A(1,2)$ .

המשיק חותך את ציר ה- $x$  בנקודה  $B$ .

חשב את השטח המוגבל בין הפונקציה, המשיק וציר ה- $x$ .



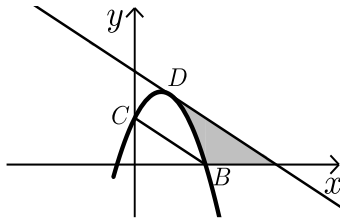
(23) נתונה הפונקציה:  $f(x) = (x-2)^2$ .

מנקודת החיתוך שלה עם ציר ה- $y$  מעבירים משיק.

א. מצא את משוואת המשיק.

ב. מצא את נקודת החיתוך של המשיק עם ציר ה- $x$ .

ג. חשב את השטח הכלוא בין המשיק, גרף הפונקציה וציר ה- $x$ .



(24) משוואת הפרבולה היא:  $f(x) = -2x^2 + 3x + 2$ .

הנקודות  $B(2,0)$ ,  $C(0,2)$  הן נקודות חיתוך

של הפרבולה עם הצירים.

המשיק לפרבולה בנקודה  $D$  מקביל לישר  $BC$ .

א. מצא את משוואת המשיק.

ב. מצא את השטח המוגבל בין הפרבולה, המשיק וציר ה- $x$ .

ג. מצא את השטח המוגבל בין הפרבולה, המשיק וציר ה- $y$ .

### תשובות סופיות:

(1)  $22\frac{2}{3}$  יח"ש.

(2) א.  $(-1,0)$ ,  $(5,0)$ . ב.  $33\frac{1}{3}$  יח"ש.

(3)  $\frac{1}{12}$  יח"ש.

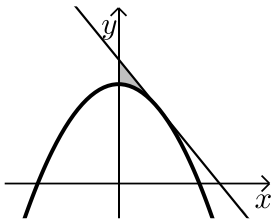
(4) 4 יח"ש.

(5)  $4\frac{4}{15}$  יח"ש.

- (6) לא. השטח הוא: 13 יח"ש.
- (7) א.  $(-1,0)$ ,  $(0,0)$ ,  $(2,0)$  ב.  $3\frac{1}{12}$  יח"ש.
- (8)  $57\frac{1}{6}$  יח"ש.
- (9)  $20\frac{5}{6}$  יח"ש.
- (10)  $21\frac{1}{3}$  יח"ש.
- (11) א.  $(1,3)$ ,  $(4,0)$  ב.  $2\frac{5}{11}$ .
- (12) א.  $(-2,5)$ ,  $(0,5)$ ,  $(2,5)$  ב. 8 יח"ש.
- (13) 0.5 יח"ש.
- (14) א.  $f(x)=I$ ,  $g(x)=II$  ב. הוכחה.
- (15)  $\frac{2}{3}$  יח"ש.
- (16) א.  $(2,2)$  ב.  $(1,3)$  ג.  $3\frac{5}{6}$  יח"ש.
- (17) א.  $x=2$ ,  $x=-2$  ב.  $(1,11)$  ג.  $25\frac{1}{3}$  יח"ש.
- (18) 18 יח"ש.
- (19) א.  $\frac{4}{3}$  יח"ש ב.  $1\frac{7}{12}$  יח"ש.
- (20)  $16\frac{1}{3}$  יח"ש.
- (21) א.  $y=-x$  ב.  $(-3,3)$  ג.  $7\frac{5}{6}$  יח"ש.
- (22)  $\frac{1}{6}$  יח"ש.
- (23) א.  $y=-4x+4$  ב.  $(1,0)$  ג.  $\frac{2}{3}$  יח"ש.
- (24) א.  $y=-x+4$  ב.  $2\frac{2}{3}$  יח"ש. ג.  $\frac{2}{3}$  יח"ש.

## חישובי שטחים יסודיים עם פרמטרים:

### שאלות:

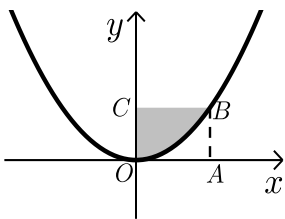


25 נתונה הפרבולה:  $y = ax^2 + 8$ .

שיפוע המשיק לגרף הפרבולה בנקודה שבה  $x = 2$  הוא  $-2$ .

א. חשב את  $a$ .

ב. חשב את השטח המוגבל על ידי המשיק, הפרבולה וציר  $y$ .

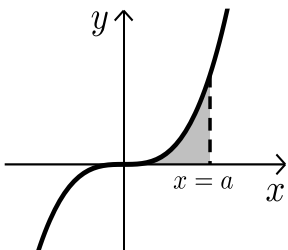


26 הפונקציה המתוארת בשרטוט היא:  $y = ax^2$  ( $a$  פרמטר). המרובע ABCO הוא ריבוע.

הקדקוד B נמצא על גרף הפונקציה.

ידוע כי אורך צלע הריבוע היא 2 יחידות.

מצא את ערך הפרמטר  $a$  ואת השטח המסומן בשרטוט.



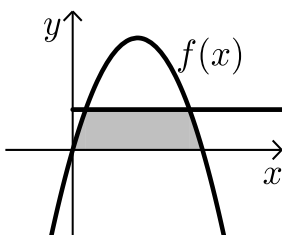
27 נתונה הפונקציה  $y = x^3$ .

מעבירים אנך לציר ה- $x$ :  $x = a$  ( $a$  פרמטר חיובי)

כך שנוצר שטח הכלוא בין האנך, גרף הפונקציה וציר ה- $x$ .

א. הבע באמצעות  $a$  את השטח המקווקו בציור.

ב. חשב את  $a$  אם ידוע כי שטח זה שווה ל- $a^2$ .



28 נתונה הפונקציה:  $f(x) = kx - x^2$ .

הישר  $y = 9$  חותך את גרף הפונקציה בשתי נקודות.

ידוע כי שיעור ה- $x$  של אחת מנקודות החיתוך

הוא  $x = 9$ .

א. מצא את ערך הפרמטר  $k$ .

ב. מצא את נקודת החיתוך השנייה בין שני הגרפים.

ג. חשב את השטח המוגבל בין גרף הפונקציה,

הישר וציר ה- $x$  (השטח המסומן).

**תשובות סופיות:**

$$\text{א. } a = -\frac{1}{2} \quad \text{ב. } \frac{4}{3} \text{ יח"ש.} \quad (25)$$

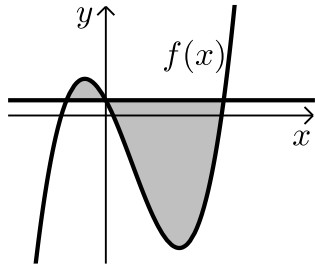
$$\text{א. } a = \frac{1}{2}, \quad \text{ב. } 2\frac{2}{3} \text{ יח"ש.} \quad (26)$$

$$\text{א. } \frac{a^4}{4} \quad \text{ב. } a = 2 \quad (27)$$

$$\text{א. } k = 10 \quad \text{ב. } (1,9) \quad \text{ג. } 81\frac{1}{3} \text{ יח"ש.} \quad (28)$$

## חישובי שטחים כאשר נתונה נגזרת הפונקציה:

### שאלות:



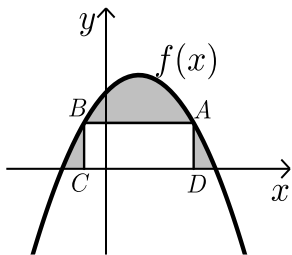
29 נגזרת הפונקציה  $f(x)$  היא:  $f'(x) = 3x^2 - 8x - 12$ .

הישר  $y = 5$  חותך את גרף הפונקציה  $f(x)$  על ציר ה- $y$ .

א. מצא את הפונקציה  $f(x)$ .

ב. מצא את השטח המוגבל בין הישר והפונקציה.

30 הנגזרת של הפונקציה  $f(x)$  המתוארת באיור שלפניך היא:  $f'(x) = 3 - 2x$ .



ישר AB שמשוואתו:  $y = 6$  חותך את גרף הפונקציה  $f(x)$  בנקודות A ו-B.

מנקודות אלו מורידים אנכים לציר ה- $x$  כך שנוצר מלבן ABCD.

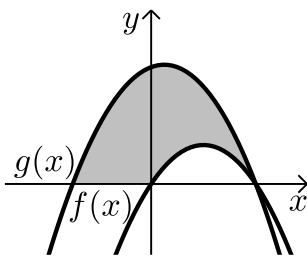
ידוע ששיעור ה- $x$  של הנקודה A הוא 4.

א. מצא את הפונקציה  $f(x)$ .

ב. חשב את השטח הכלוא בין גרף הפונקציה, המלבן וציר ה- $x$ .

31 באיור שלפניך מתוארות הפונקציות שנגזרותיהן:  $f'(x) = 4 - 2x$ ,  $g'(x) = -2x + 1$ .

ידוע ששתי הפונקציות חותכות את ציר ה- $x$  כאשר:  $x = 4$ .

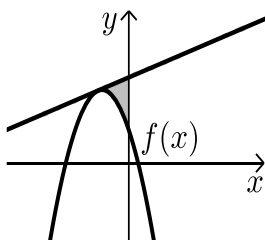


א. מצא את הפונקציות.

ב. חשב את השטח המוגבל בין הגרפים של שתי הפונקציות וציר ה- $x$  (המסומן).

32 נתונה פונקציה  $f(x)$ .

משוואת המשיק לפונקציה  $f(x)$  בנקודה שבה:  $x = -2$  היא:  $y = x + 13$ .



הנגזרת של הפונקציה היא:  $f'(x) = -4x - 7$ .

א. מצא את הפונקציה  $f(x)$ .

ב. חשב את השטח הכלוא בין המשיק, גרף הפונקציה וציר ה- $y$ .

**33** נתונה פונקציה  $f(x)$  שנגזרתה היא:  $f'(x) = 3x^2 - 6x - 9$ .

ישר ששיפועו 15 משיק לפונקציה ברביע הרביעי בנקודה שבה:  $y = -20$ .

א. מצא את הפונקציה  $f(x)$ .

ב. האם יש עוד משיקים לגרף הפונקציה בעלי שיפוע 15? אם כן- מצא אותם.

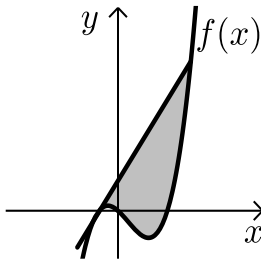
ג. ענה על הסעיפים הבאים:

i. הראה כי הנקודה שבה  $x = 7$  משותפת למשיק

שמצאת בסעיף הקודם ולפונקציה  $f(x)$ .

ii. מצא את השטח הכלוא בין גרף הפונקציה

והמשיק שמצאת בסעיף הקודם (ראה איור).



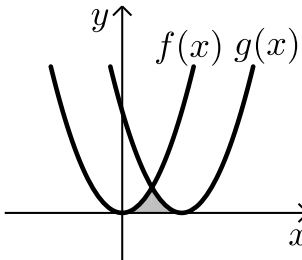
**34** באיור שלפניך חותך גרף הפונקציה:  $f(x) = x^2$

את גרף הפונקציה  $g(x)$  בנקודה שבה  $x = 2$ .

הנגזרת של הפונקציה  $g(x)$  היא:  $g'(x) = 2x - 8$ .

א. מצא את הפונקציה  $g(x)$ .

ב. חשב את השטח הכלוא בין שני הגרפים וציר ה- $x$  (המסומן).



**35** באיור שלפניך מתוארים גרף הפונקציה  $f(x)$  והישר  $y = 2x$ .

נגזרת הפונקציה  $f(x)$  היא:  $f'(x) = 2x - 6$

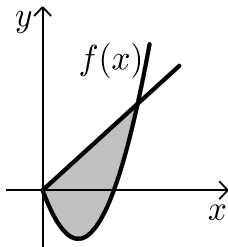
וידוע כי הישר חותך את הפונקציה בנקודה שבה ערך

ה- $y$  הוא 16.

א. מצא את הפונקציה  $f(x)$ .

ב. האם יש לגרף הפונקציה ולישר עוד נקודות חיתוך? אם כן מצא אותן.

ג. חשב את השטח המוגבל בין גרף הפונקציה והישר.



## תשובות סופיות:

א. (29)  $f(x) = x^3 - 4x^2 - 12x + 5$       ב.  $189\frac{1}{3}$  יח"ש.

א. (30)  $f(x) = -x^2 + 3x + 10$       ב.  $27\frac{1}{6}$  יח"ש.

א. (31)  $f(x) = 4x - x^2$ ,  $g(x) = -x^2 + x + 12$       ב. 46.5 יח"ש.

א. (32)  $f(x) = -2x^2 - 7x + 5$       ב.  $5\frac{1}{3}$  יח"ש.

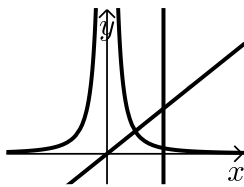
א. (33)  $f(x) = x^3 - 3x^2 - 9x$       ב.  $y = 15x + 28$

א. (34)  $g(x) = (x - 4)^2$       ג. i. (7,133)      ג. ii. 546.75 יח"ש.

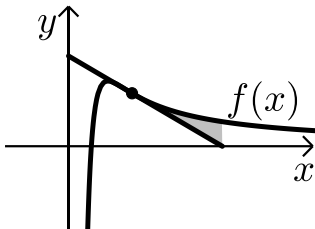
א. (35)  $f(x) = x^2 - 6x$       ב. (0,0)      ג.  $85\frac{1}{3}$  יח"ש.

## חישובי שטחים עם פונקציה רציונאלית:

### שאלות:

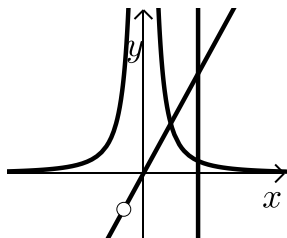


- (1) נתונות שתי פונקציות:  $f(x) = \frac{1}{x^2}$ ,  $g(x) = x$ .  
חשב את גודל השטח הכלוא בין הפונקציות,  
הישר  $x=2$  וציר ה- $x$ .



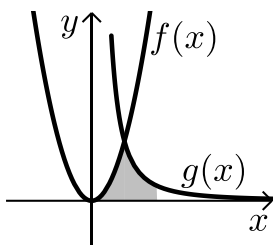
- (2) ענה על הסעיפים הבאים:

- א. מבין כל המשיקים לגרף הפונקציה:  $f(x) = \frac{2}{x^2} - \frac{1}{x^3}$ , מצא את משוואת המשיק ששיפועו מינימלי.  
ב. באיור שלפניך מתוארים הגרפים של הפונקציה והמשיק שמצאת בסעיף א'.  
חשב את השטח הכלוא בין גרף הפונקציה, המשיק ואנך לציר ה- $x$  היוצא מנקודת החיתוך של המשיק עם ציר ה- $x$ .



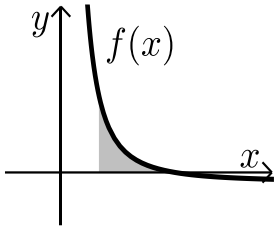
- (3) נתונות שתי פונקציות:  $f(x) = \frac{1}{x^2}$ ,  $g(x) = \frac{x^2 + 2x}{x + 2}$ .  
חשב את גודל השטח הכלוא בין הפונקציות,  
הישר  $x=2$  וציר ה- $x$ .

- (4) באיור שלפניך מתוארים הגרפים של הפונקציות:  $f(x) = 2x^2$  ו- $g(x) = \frac{a}{x^2}$



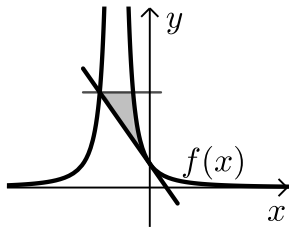
- ( $a$  קבוע) בתחום:  $x > 0$ .  
ידוע כי הגרפים נחתכים ברביע הראשון בנקודה הנמצאת על הישר:  $y = 4x$ .  
א. מצא את נקודת החיתוך של הגרפים ואת  $a$ .  
ב. חשב את השטח המוגבל בין שני הגרפים, ציר ה- $x$  והישר:  $x=4$ .

5) גרף הפונקציה:  $f(x) = \frac{a-x^2}{x^2}$  (קבוע  $a$ ) חותך את ציר ה- $x$  בנקודה  $(6,0)$ .



- א. מצא את  $a$  וכתוב את הפונקציה.  
 ב. חשב את השטח המוגבל בין גרף הפונקציה, ציר ה- $x$  והישר:  $x=2$ .

6) נתונה הפונקציה:  $f(x) = \frac{A}{(2x+A)^2}$  ( $A$  פרמטר חיובי).



ידוע כי שיפוע הפונקציה בנקודת החיתוך שלה עם ציר ה- $y$  הוא:  $-\frac{1}{9}$ .

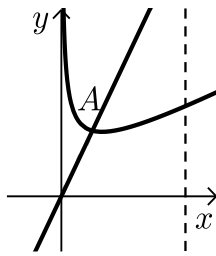
- א. מצא את ערך הפרמטר  $A$ .  
 ב. כתוב את משוואת המשיק לגרף הפונקציה בנקודת החיתוך עם ציר ה- $y$ .  
 ג. הראה כי המשיק חותך את גרף הפונקציה בנקודה שבה:  $x = -4.5$ .  
 ד. העבר ישר אופקי מנקודת החיתוך של המשיק וגרף הפונקציה מהסעיף הקודם. מצא את נקודת החיתוך הנוספת של ישר זה עם גרף הפונקציה.  
 ה. חשב את השטח כלוא בין המשיק, הישר וגרף הפונקציה (היעזר באיור).

### תשובות סופיות:

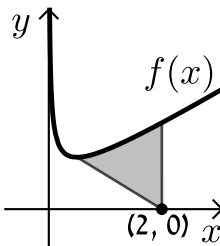
- (1) 1 יח"ש.  
 (2) א.  $y = -x + 2$ .  
 (3) 1 יח"ש.  
 (4) א.  $a = 32$ ,  $(2, 8)$ .  
 (5) א.  $a = 36$ ,  $f(x) = \frac{36-x^2}{x^2}$ .  
 (6) א.  $A = 6$ .  
 ב.  $\frac{1}{8}$  יח"ש.  
 ב.  $13\frac{1}{3}$  יח"ש.  
 ב. 8 יח"ש.  
 ג. הוכחה.  
 ב.  $y = -\frac{1}{9}x + \frac{1}{6}$ .  
 ד.  $(-1.5, \frac{2}{3})$ .  
 ה.  $\frac{5}{8}$  יח"ש.

## חישובי שטחים עם פונקצית שורש:

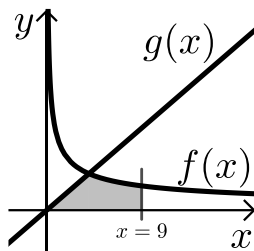
### שאלות:



- (1) באיור שלפניך נתונה הפונקציה:  $f(x) = \frac{3}{\sqrt{x}} + x$ . מעבירים ישר:  $y = 4x$  החותך את גרף הפונקציה בנקודה A המסומנת באיור.
- מצא את שיעורי הנקודה A.
  - חשב את השטח הכלוא בין גרף הפונקציה  $f(x)$ , הישר  $y = 4x$ , ציר ה- $x$  ואנך לציר ה- $x$ :  $x = 4$ .

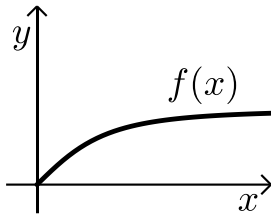


- (2) באיור שלפניך נתונה הפונקציה:  $f(x) = \frac{1}{\sqrt{2x}} + x$ .
- מצא את נקודת המינימום שלה.
  - מנקודת המינימום של הפונקציה מעבירים ישר לנקודה  $(2,0)$  שעל ציר ה- $x$ .
- מצא את השטח הכלוא בין גרף הפונקציה, הישר ואנך לציר ה- $x$  היוצא מהנקודה  $(2,0)$  עד לנקודת החיתוך עם גרף הפונקציה.

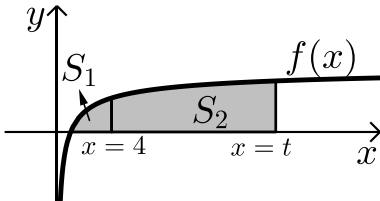


- (3) באיור הבא מתוארים הגרפים של הפונקציות:  $f(x) = \frac{16}{\sqrt{x}}$  ו- $g(x) = 2x - 1$ .
- מצא את נקודת החיתוך של הגרפים.
  - חשב את השטח המוגבל בין שני הגרפים, ציר ה- $x$  והישר  $x = 9$ .

- (4) נתונה הפונקציה:  $f(x) = (x-6)\sqrt{x}$ . חשב את גודל השטח הכלוא בין הפונקציה, המשיק לפונקציה בנקודת המינימום שלה וציר ה- $y$ .



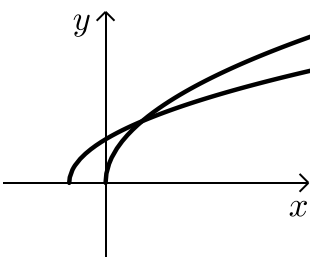
- (5) נתונה הפונקציה  $f(x) = \frac{x}{\sqrt{x^2+1}}$  ברביע הראשון. לפונקציה העבירו משיק העובר בראשית הצירים. חשב את גודל השטח הכלוא בין הפונקציה, המשיק והישר  $x = \sqrt{3}$ .



- (6) באיור שלפניך מתואר גרף הפונקציה:  $f(x) = 1 - \frac{1}{\sqrt{x}}$ . מעבירים שני אנכים לציר ה- $x$  והם:  $x = 4$  ו- $x = t$  ( $t > 4$ ). נסמן:  
 $S_1$  - השטח הכלוא בין גרף הפונקציה וציר ה- $x$ .  
 $S_2$  - השטח הכלוא בין גרף הפונקציה, ציר ה- $x$  והאנכים. ידוע כי:  $8S_1 = S_2$ . מצא את  $t$ .

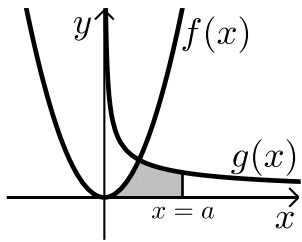
(7) נתונה הפונקציה:  $f(x) = \frac{x\sqrt{x}-8}{\sqrt{x}}$

- א. ענה על הסעיפים הבאים:  
 i. מצא את תחום ההגדרה של הפונקציה.  
 ii. מצא את נקודת החיתוך של הפונקציה עם ציר ה- $x$ .  
 iii. הראה כי הפונקציה עולה בכל תחום הגדרתה.  
 ב. מעבירים משיק לגרף הפונקציה ששיפועו הוא:  $m = \frac{17}{16}$ . מצא את נקודת ההשקה.  
 ג. חשב את השטח הכלוא בין גרף הפונקציה, ציר ה- $x$  ואנך לציר ה- $x$  מנקודת ההשקה שמצאת בסעיף הקודם.



- (8) נתונות שתי פונקציות:  $f(x) = \sqrt{x+b}$ ,  $g(x) = \sqrt{2x}$  ( $b > 0$ ). גודל השטח הכלוא בין הפונקציות וציר ה- $x$  הוא  $2\frac{2}{3}$  יח"ש. מצא את ערכו של הפרמטר  $b$ .

9) באיור שלפניך מתוארים הגרפים של הפונקציות:  $f(x) = x^2$



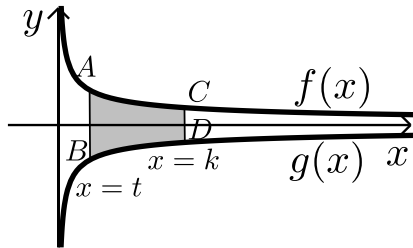
ו-  $g(x) = \frac{32}{\sqrt{x}}$  ברביע הראשון.

מעבירים ישר  $x=a$  החותך את גרף הפונקציה  $g(x)$  ויוצר את השטח הכלוא בין שני הגרפים, ציר ה- $x$  והישר.

ידוע כי שטח זה שווה ל-  $S = 85\frac{1}{3}$ .

מצא את  $a$ .

10) באיור שלפניך מתוארים הגרפים של הפונקציות:  $f(x) = \frac{3}{\sqrt{x}}$  ו-  $g(x) = -\frac{3}{\sqrt{x}}$



מעבירים שני ישרים:  $x=k$  ו-  $x=t$  אשר חותכים את הגרפים של הפונקציות ויוצרים את הקטעים AB ו-CD.

ידוע כי:  $2CD=AB$ .

א. הראה כי:  $k=4t$ .

ב. השטח הכלוא בין הגרפים של הפונקציות

והישרים:  $x=t$  ו-  $x=k$  הוא:  $S=12$ .

מצא את  $t$ .

11) ענה על הסעיפים הבאים:

א. מצא עבור איזה ערך של  $a$ ,  $(a > 1)$  יתקיים:  $\int_1^a \left( \frac{3}{\sqrt{2x-1}} - 1 \right) dx = 0$ .

ב. באיור שלפניך מתואר גרף הפונקציה:  $f(x) = \frac{3}{\sqrt{2x-1}} - 1$

מעבירים שני אנכים לציר ה- $x$  והם:  $x=1$  ו-  $x=13$

כך שנוצרים השטחים  $S_1$  ו-  $S_2$ .

מצא את נקודת החיתוך של הפונקציה עם ציר ה- $x$

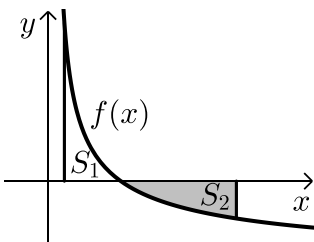
ג. ענה על הסעיפים הבאים:

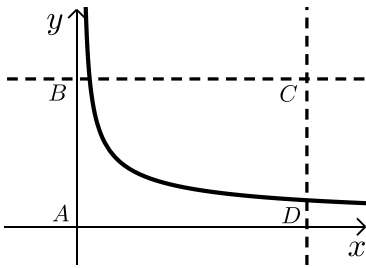
i. חשב את השטח הכלוא בין גרף הפונקציה,

ציר ה- $x$  והאנך  $x=1$ ,  $(S_1)$ .

ii. היעזר בתוצאה שקיבלת ובסעיף א' וקבע לכמה שווה השטח  $S_2$ .

נמק את טענתך.





**(12)** באיור שלפניך מתוארת הפונקציה:  $f(x) = \frac{9}{\sqrt{2x-1}}$

מעבירים את הישרים המקבילים לצירים:  $x = 13$

ו-  $y = 3$  כך שנוצר המלבן ABCD כמתואר באיור.

הישר  $y = 3$  חותך את גרף הפונקציה בנקודה M.

א. מצא את שיעורי הנקודה M.

ב. מסמנים את השטח הכלוא בין גרף הפונקציה

והישרים ב-  $S_1$  ואת שטח המלבן ב-  $S_2$ .

$$\text{הראה כי: } \frac{S_1}{S_2} = \frac{2}{13}$$

### תשובות סופיות:

1) א.  $A(1,4)$  ב. 15.5 יח"ש.

2) א.  $\min(0.5, 1.5)$  ב. 1.75 יח"ש.

3) א.  $(4,8)$  ב. 48 יח"ש.

4) 2.26 יח"ש.

5) 0.5 יח"ש

6)  $t = 16$

7) א. i.  $x > 0$  ii.  $(4,0)$  iii.  $f'(x) = 1 + \frac{4}{x\sqrt{x}} > 0$

ב.  $(16,14)$  ג. 88 יח"ש.

8)  $b = 2$

9)  $a = 9$

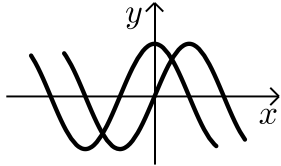
10) א. הוכחה ב.  $t = 1$

11) א.  $a = 13$  ב.  $(5,0)$  ג. i.  $S_1 = 2$  ii.  $S_2 = |-S_1| = 2$

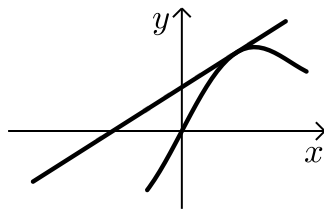
12) א.  $M(5,3)$

## חישובי שטחים עם פונקציות טריגונומטריות:

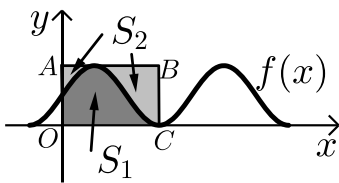
### שאלות:



- (1) נתונות הפונקציות:  $f(x) = \sin x$ ,  $g(x) = \cos x$ .  
חשב את גודל השטח הכלוא בין הפונקציות לציר ה- $y$  ברביע הראשון.



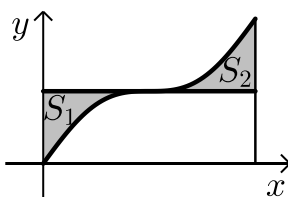
- (2) נתונה הפונקציה:  $f(x) = x + 2 \sin x$ .  
בתחום שבין ראשית הצירים לנקודת המקסימום הראשונה מימינה העבירו לפונקציה משיק ששיפועו 1.  
א. מצא את משוואת המשיק.  
ב. חשב את גודל השטח הכלוא בין הפונקציה, המשיק וציר ה- $x$  ברביעים הראשון והשני.



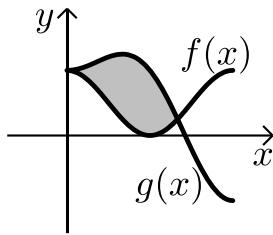
- (3) באיור שלפניך מתואר גרף הפונקציה:  $f(x) = \frac{\sin 2x + 1}{2}$ .  
בתחום:  $-0.25\pi \leq x \leq 1.75\pi$  מעבירים משיק  $AB$  דרך נקודת המקסימום של הפונקציה ומעלים אנך לציר ה- $x$  מנקודת החיתוך הראשונה של גרף הפונקציה עם ציר ה- $x$  בתחום הנתון המסומנת ב- $C$  כך שנוצר המלבן  $ABCO$ .  
השטח הכלוא בין גרף הפונקציה והצירים יסומן ב- $S_1$  (ראה סימון בציור).  
השטח הכלוא בין צלעות המלבן, גרף הפונקציה וציר ה- $y$  יסומן ב- $S_2$ .  
א. מצא את משוואת הצלע  $AB$  של המלבן.  
ב. חשב את היחס:  $\frac{S_1}{S_2}$ .

- (4) באיור שלפניך נתונה הפונקציה:  $y = \sin x + x$  בתחום:  $0 \leq x \leq 2\pi$ .

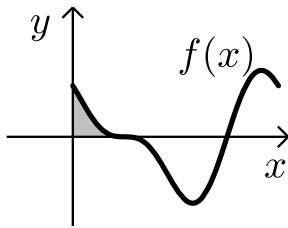
- א. האם יש לפונקציה נקודות קיצון פנימיות בתחום הנתון?  
ב. מורידים אנך מגרף הפונקציה לציר ה- $x$  בנקודה שבה:  $x = 2\pi$ .  
מעבירים ישר המקביל לציר ה- $x$  מהנקודה שמאפסת את הנגזרת.



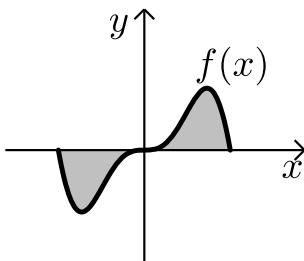
הראה כי השטחים  $S_1$  ו- $S_2$  המסומנים בסרטוט שווים.



- (5) באיור שלפניך מתוארים הגרפים של הפונקציה  
 הבאות:  $f(x) = \cos^2 x$  ו-  $g(x) = \sin^2 x + \cos x - 1$   
 בתחום:  $0 \leq x \leq \pi$ .  
 א. מצא את נקודות החיתוך של הגרפים בתחום הנתון.  
 ב. חשב את השטח הכלוא בין שני הגרפים.  
 השתמש בזהות:  $\cos 2\alpha = \cos^2 \alpha - \sin^2 \alpha$ .



- (6) הנגזרת של הפונקציה  $f(x)$  היא:  $f'(x) = -\cos 2x - \sin x$ .  
 א. מצא את שיעורי ה- $x$  של הנקודות  
 המקיימות:  $f'(x) = 0$  בתחום:  $0 < x < 2\pi$ .  
 ידוע כי הנקודה המקיימת  $f'(x) = 0$  אשר אינה  
 קיצון נמצאת על ציר ה- $x$ .  
 ב. מצא את הפונקציה  $f(x)$ .  
 ג. באיור שלפניך מתואר גרף הפונקציה בתחום הנתון.  
 חשב את השטח הכלוא בין גרף הפונקציה והצירים.



- (7) ענה על הסעיפים הבאים:  
 א. נתונה הפונקציה:  $y = -x^2 \cos x + 2x \sin x + 2 \cos x$   
 הוכח כי הנגזרת של הפונקציה היא:  $y' = x^2 \sin x$   
 באיור שלפניך נתונה הפונקציה:  $f(x) = x^2 \sin x$   
 בתחום:  $-\pi \leq x \leq \pi$ .  
 ב. הראה כי גרף הפונקציה עובר בראשית הצירים.  
 ג. חשב את השטח הכלוא בין גרף הפונקציה  
 וציר ה- $x$  בתחום הנתון.

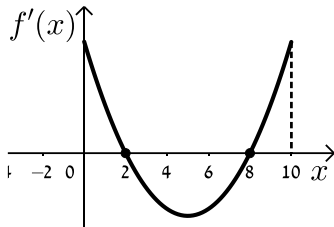
- (8) נתונה הפונקציה:  $f(x) = a \cos x + b \sin x$ ,  $a, b$  פרמטרים.  
 הפונקציה חותכת את ציר ה- $x$  בנקודה שבה  $x = \frac{\pi}{4}$  והיא חיובית בתחום  $\left[0, \frac{\pi}{4}\right]$ .  
 גודל השטח הכלוא מתחת לפונקציה בתחום  $\left[0, \frac{\pi}{4}\right]$  הוא  $2\sqrt{2} - 2$ .  
 מצא את ערכי הפרמטרים  $a$  ו- $b$ .

## תשובות סופיות:

- (1) 0.41 יח"ש.
- (2) א.  $y = x + 2$ . ב.  $\pi$  יח"ש.
- (3) א.  $y = 1$ . ב.  $\frac{S_1}{S_2} = \frac{3\pi + 2}{3\pi - 2} = 1.538$ .
- (4) א. אין נקודת קיצון, הנקודה  $(\pi, \pi)$  היא נקודת פיתול.  
 ב.  $S = 0.5\pi^2 - 2 = 2.934$ .
- (5) א.  $(0, 1)$ ,  $(\frac{2\pi}{3}, \frac{1}{4})$ . ב.  $S = 1.5 \frac{\sqrt{3}}{2} = 1.299$ .
- (6) א.  $x = \frac{\pi}{2}, \frac{7\pi}{6}, \frac{11\pi}{6}$ . ב.  $f(x) = -\frac{1}{2} \sin 2x + \cos x$ . ג.  $\frac{1}{2}$  יח"ש.
- (7) א. הוכחה. ב. הוכחה. ג.  $S = 2(\pi^2 - 4) \approx 11.74$ .
- (8)  $b = -2, a = 2$ .

## חישובי שטחים בין גרף הנגזרת והצירים:

### שאלות:



1 הפונקציה  $f(x)$  מוגדרת בתחום  $0 \leq x \leq 10$ .

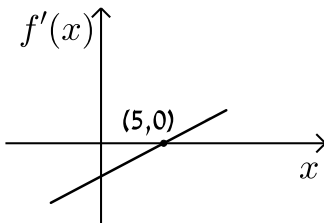
בציור מתואר גרף הנגזרת  $f'(x)$ .

א. סרטט סקיצה של גרף הפונקציה  $f(x)$

אם:  $f(2) = 6, f(0) = -4, f(5) = 0$  וכך:  $f(10) > 0$ .

ב. חשב את השטח המוגבל ע"י גרף הנגזרת והצירים ברביע הראשון

עד לנקודה שבה  $x = 2$ .



2 לפניך הגרף של הפונקציה  $f'(x)$ .

הגרף המתואר חותך את ציר ה- $x$  בנקודה

אחת בלבד והיא  $(5, 0)$ .

א. מצא את התחומים שבהם  $f'(x)$  היא חיובית

ואת התחומים שבהם היא שלילית.

ב. קבע מהם תחומי העלייה והירידה של הפונקציה  $f(x)$ .

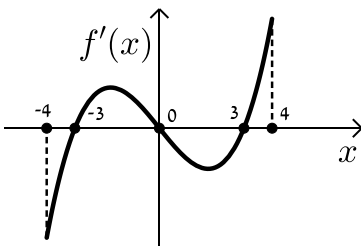
ג. כתוב את נקודת הקיצון של הפונקציה  $f(x)$  אם ידוע כי

שיעור ה- $y$  שלה הוא  $-2$ .

ד. סרטט סקיצה של גרף הפונקציה  $f(x)$  אם ידוע כי גרף הפונקציה

חותך את ציר ה- $y$  כאשר  $y = 8$ .

ה. חשב את השטח הכלוא בין גרף הנגזרת  $f'(x)$  והצירים.



3 בציור מתואר גרף הנגזרת  $f'(x)$  של הפונקציה  $f(x)$ .

א. רשום את תחומי העלייה והירידה של  $f(x)$ .

ב. מצא את שיעורי ה- $x$  של נקודות הקיצון

של  $f(x)$  וקבע את סוגן.

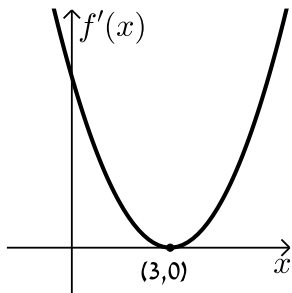
ג. נתון כי הפונקציה  $f(x)$  עוברת בראשית הצירים וגם מקיימת:  $f(-3) = f(3) = m$ .

סרטט סקיצה של גרף הפונקציה  $f(x)$  בתחום הנ"ל (הבע באמצעות  $m$ ).

ד. השטח הכלוא בין גרף הנגזרת  $f'(x)$  וציר ה- $x$  ברביעים

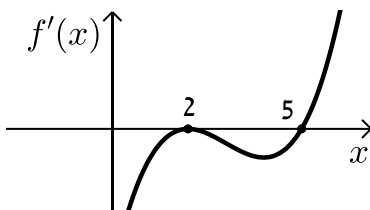
השני והרביעי הוא 16 יח"ש. מצא את  $m$ .

4 הנגזרת  $f'(x)$  של הפונקציה  $f(x)$  מתוארת באיור הבא.



- א. האם ל- $f(x)$  יש נקודות קיצון? נמק.
- ב. סרטט סקיצה של גרף הפונקציה  $f(x)$  אם ידוע כי  $f(3) = 4$  וכי היא חותכת את ציר ה- $y$  בנקודה שבה  $y = -5$ .
- ג. חשב את השטח הכלוא בין גרף הנגזרת  $f'(x)$  והצירים ברביע הראשון.

5 באיור שלפניך מתואר גרף הנגזרת  $f'(x)$  של הפונקציה  $f(x)$ .

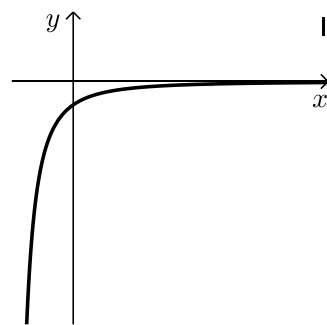
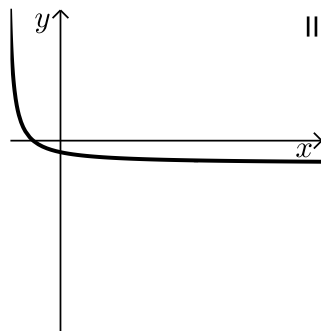


ידוע כי הנקודות  $B(2, 2)$ ,  $A(5, -4.75)$

ו- $C(0, 14)$  נמצאות על  $f(x)$ .

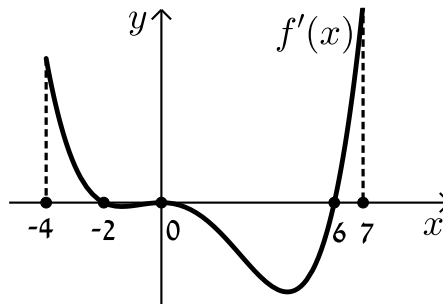
- א. מצא את נקודת הקיצון של הפונקציה  $f(x)$ .
- ב. כתוב את תחומי העלייה והירידה של  $f(x)$ .
- ג. סרטט סקיצה של גרף הפונקציה  $f(x)$ .
- ד. חשב את השטח מוגבל בין גרף הנגזרת  $f'(x)$  והצירים בתחום  $0 \leq x \leq 5$ .

6 באיורים שלפניך מתוארים הגרפים של הפונקציות  $f(x)$  ו- $f'(x)$ :



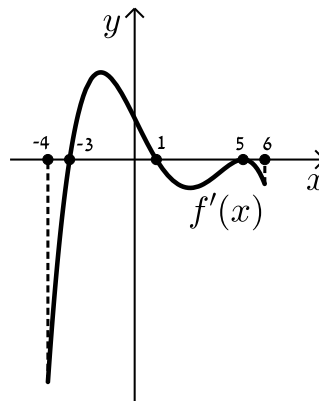
- א. זהה איזה גרף שייך לאיזו פונקציה ונמק.
- ב. נתון כי  $f(10) = -3$  וכי  $f(x)$  חותכת את ציר ה- $y$  בנקודה שבה  $y = -2$ . מהו השטח המוגבל בין גרף הנגזרת  $f'(x)$ , הצירים והישר  $x = 10$ ?

7 נתון גרף הנגזרת  $f'(x)$  הבא:



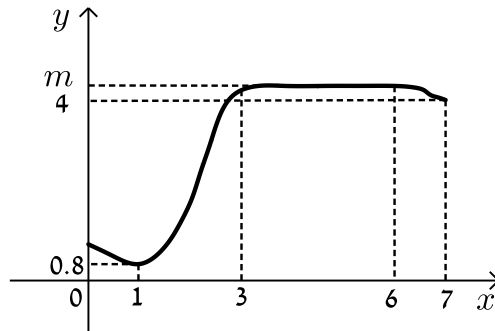
- א. סרטט את גרף הפונקציה  $f(x)$  בתחום  $-4 \leq x \leq 7$  לפי הנתונים:  $f(0) = -2$ ,  $f(-2) = 7.6$  ו-  $f(6) = -606.8$ .
- ב. חשב את השטח המוגבל בין גרף הנגזרת וציר ה- $x$  ברביע השלישי.
- ג. חשב את השטח המוגבל בין גרף הנגזרת וציר ה- $x$  ברביע הרביעי.

8 נתון גרף הנגזרת  $f'(x)$  הבא:



- א. סרטט את גרף הפונקציה  $f(x)$  בתחום  $-4 \leq x \leq 6$  עבור הנתונים:  $f(5) = -83\frac{1}{3}$ ,  $f(1) = 36\frac{2}{15}$ ,  $f(-3) = -356\frac{2}{5}$ .
- ב. חשב את כלל השטח הכלוא בין גרף הנגזרת וציר ה- $x$  בתחום:  $-3 \leq x \leq 5$ .

9) בציור שלפניך מתואר גרף הפונקציה  $f(x)$  בתחום  $0 < x < 7$ :



הסתמך על הגרף של  $f(x)$  ועל הערכים הרשומים על הצירים וענה על השאלות הבאות:

א. מצא עבור אילו ערכים של  $x$  השונים מ-6 מתקיים:

i.  $f'(x) > 0$

ii.  $f'(x) = 0$

iii.  $f'(x) < 0$

ב. נתון כי:  $\int_3^6 m dx = 15$ , כאשר  $m$  הוא פרמטר המסומן על ציר ה- $y$ .

מצא את  $f(5)$ .

ג. סרטט סקיצה של גרף פונקציה הנגזרת  $f'(x)$  בתחום  $0 < x < 3$ .

ד. מצא את השטח המוגבל בין הגרף של פונקציה הנגזרת  $f'(x)$

וציר ה- $x$  בתחום  $1 < x < 3$ .

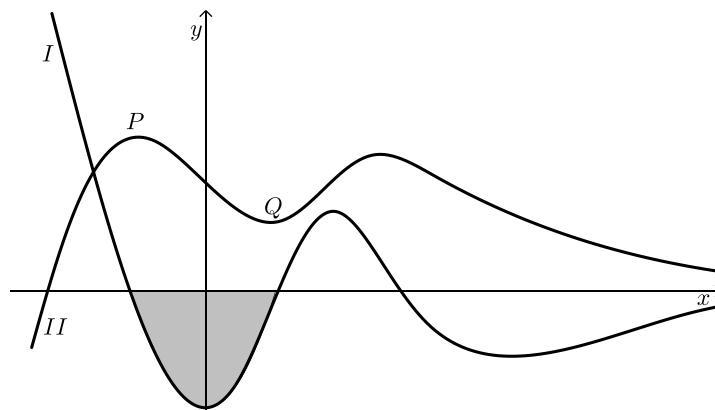
10) בסרטוט נתונים הגרפים של פונקציה ושל נגזרתה.

א. קבע איזה מהגרפים, I או II, שייך לפונקציה ואיזה שייך לנגזרת. נמק.

ב. כמה נקודות פיתול יש לפונקציה? נמק וסמן אותן על הסרטוט.

ג. נתון:  $P(-2, 4)$ ,  $Q(2, 1)$ . מצא את גודלו של השטח הכלוא בין גרף I

לציר ה- $x$  (השטח המסומן בסרטוט).

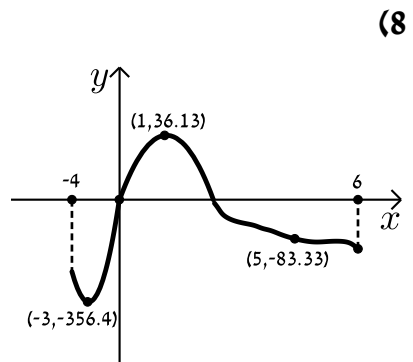
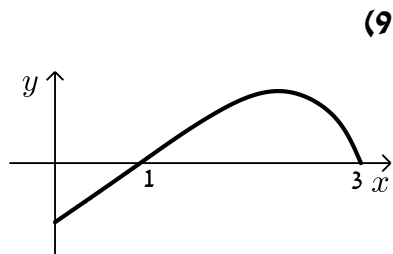
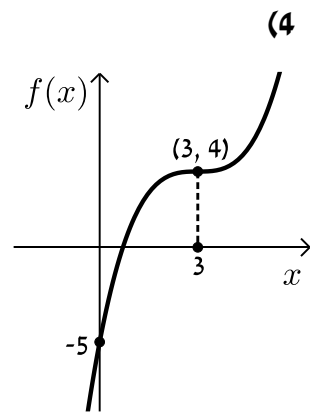
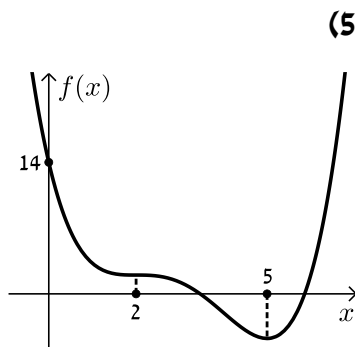
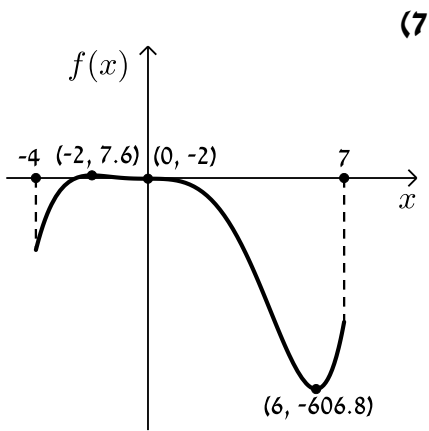
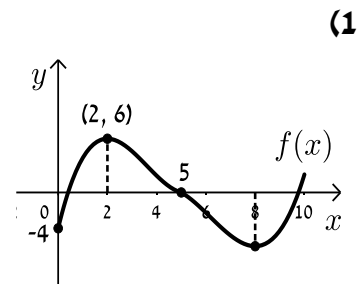
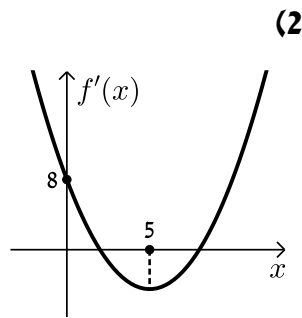
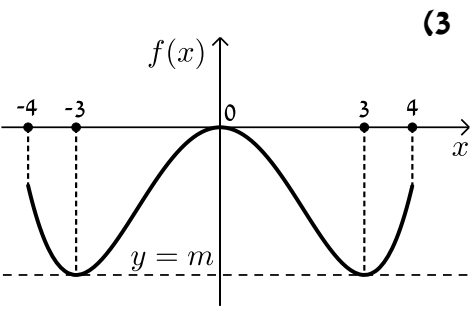


## תשובות סופיות:

הערה: סרטוטי הסקיצות מופיעות במרוכז בעמוד הבא.

- (1) ב. 10 יח"ש.
- (2) א. חיובית:  $x > 5$ , שלילית:  $x < 5$ . ב. עולה:  $x > 5$ , יורדת:  $x < 5$ .  
 ג.  $\min(5, -2)$  ד. הוכחה. ה. 10 יח"ש.
- (3) א. עולה:  $3 < x \leq 4$ ,  $-3 < x < 0$ , יורדת:  $0 < x < 3$ ,  $-4 \leq x < -3$ .  
 ב.  $x_{\min} = -3$ ,  $x_{\max} = 0$ ,  $x_{\min} = 3$ . ג. הוכחה. ד.  $m = -8$ .
- (4) א. לא. הנקודה  $(3, 0)$  היא פיתול מכיוון שהפונקציה עולה לפנייה ואחריה.  
 ב. הוכחה. ג. 9 יח"ש.
- (5) א.  $\min(5, -4.75)$ . ב. עולה:  $x > 5$ , יורדת:  $x < 5$ .  
 ג. הוכחה. ד. 18.75 יח"ש.
- (6) א.  $f(x): \text{II}$ ,  $f'(x): \text{I}$ . ב. 1 יח"ש.
- (7) א. הוכחה. ב. 9.6 יח"ש. ג. 604.8 יח"ש.
- (8) א. הוכחה. ב. 512 יח"ש.
- (9) א. i.  $f'(x) > 0: 1 < x < 3$ . א. ii.  $f'(x) = 0: x = 1, 3 \leq x < 6$ .  
 א. iii.  $f'(x) < 0: 6 < x < 7, 0 < x < 1$ . ב.  $f(5) = 5, m = 5$ . ד. 4.2 יח"ש.
- (10) א. גרף I -  $f'(x)$  וגרף II -  $f(x)$ . ב. 3 נקודות פיתול.  
 ג. 3 יח"ש.

סרטוטי גרפים לפי מספרי שאלות:



# מכינה למבחן פטור (חדוא 0)

פרק 24 - חשבון אינטגרלי - פונקציה מעריכית, לוגריתמית וחזקה

תוכן העניינים

415	1. פונקציה מעריכית.....
421	2. פונקציה לוגריתמית.....
427	3. פונקצית חזקה עם מעריך רציונאלי.....

## פונקציה מעריכית:

סיכום כללי:

אינטגרלים מיידיים של פונקציות מעריכיות:

אינטגרלים יסודיים	אינטגרלים של פונקציות מורכבות
$\int a^x dx = \frac{a^x}{\ln a} + c$	$\int a^{mx+n} dx = \frac{a^{mx+n}}{m \cdot \ln a} + c$
$\int e^x dx = e^x + c$	$\int e^{mx+n} dx = \frac{e^{mx+n}}{m} + c$

שאלות:

אינטגרל כללי:

(1) חשב את האינטגרלים הבאים:

א.  $\int (5e^x - e^{3x} + e^{-x} + 1) dx$

ג.  $\int (6\sqrt{e^{4x-1}}) dx$

ב.  $\int (3^x + 5^{2x}) dx$

ד.  $\int (e^x + e^{-x})^2 dx$

(2) חשב את האינטגרלים הבאים:

א.  $\int \frac{e^{2x} - 1}{e^x - 1} dx$

ב.  $\int \frac{3e^{3x} - 5e^{2x} + 4e^x - 2}{e^x - 1} dx$

(3) חשב את האינטגרלים הבאים:

א.  $\int (e^{4x} + e^{-x}) dx$

ג.  $\int \frac{2^x + 4^{2x} + 10^{3x}}{5^x} dx$

ב.  $\int (e^{x+1})^2 dx$

ד.  $\int \left( 4\sqrt{e^x} + \frac{1}{\sqrt[3]{e^{4x}}} \right) dx$

4) חשב את האינטגרלים הבאים:

א.  $\int \left( \frac{e^x}{\sqrt{e^x+3}} \right) dx$     ב.  $\int \left( \frac{3-e^x}{(e^x-3x)^2} \right) dx$     ג.  $\int (xe^{x^2}) dx$

**אינטגרל מסוים:**

5) נתונה נגזרת של פונקציה:  $f'(x) = 2e^x - \frac{1}{e^x}$ .

מצא את הפונקציה אם ידוע שהיא עוברת בנקודה  $\left( \ln 2, 3\frac{1}{4} \right)$ .

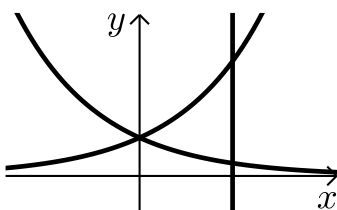
6) נתונה נגזרת של פונקציה:  $f'(x) = e^{2x} + e^x - 2$ .

מצא את הפונקציה אם ידוע שערך הפונקציה בנקודת המינימום שלה הוא  $\frac{1}{2}$ .

7) נתונה נגזרת של פונקציה:  $f'(x) = 6x^2e^{x^3} - \frac{1}{x^2}$ .

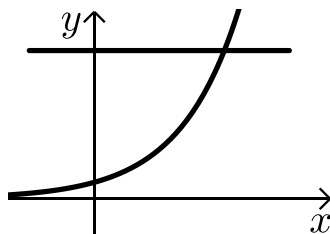
מצא את הפונקציה אם ידוע שהיא עוברת בנקודה  $\left( -1, \frac{2}{e} \right)$ .

**חישובי שטחים:**



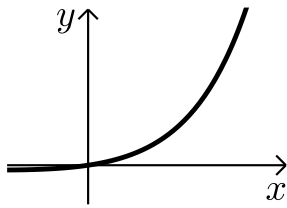
8) נתונות הפונקציות:  $f(x) = e^x$ ,  $g(x) = e^{-x}$ .

מצא את גודל השטח הכלוא בין הפונקציות לישר  $x = \ln 3$ .



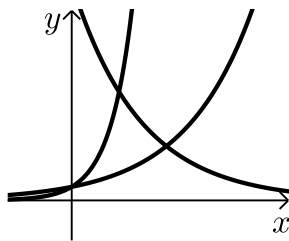
9) נתונה הפונקציה:  $f(x) = 3^x$ .

מצא את גודל השטח הכלוא בין הפונקציה, הישר  $y = 9$  וציר ה- $y$ .



**10** נתונה הפונקציה:  $f(x) = e^{2x} - e^x$ .

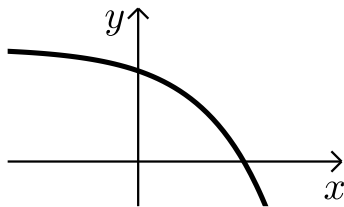
לפונקציה העבירו משיק בראשית הצירים.  
מצא את גודל השטח הכלוא בין הפונקציה,  
המשיק והישר  $x = 2$ .



**11** נתונות הפונקציות:

$$f(x) = e^x, \quad g(x) = e^{3x}, \quad h(x) = 16e^{-x}$$

חשב את גודל השטח הכלוא שבין שלוש הפונקציות.



**12** נתונה הפונקציה:  $f(x) = 5 - e^x$ .

העבירו לפונקציה משיק ששיפועו  $-e$ .  
חשב את גודל השטח הכלוא בין  
הפונקציה, המשיק וציר ה- $x$ .  
ניתן להשאיר  $e$  ו- $\ln$  בתשובה.

**13** נתונה הפונקציה:  $f(x) = e^{bx}$ ,  $(0 < b)$ .

גודל השטח הכלוא בין הפונקציה, המשיק לפונקציה העובר

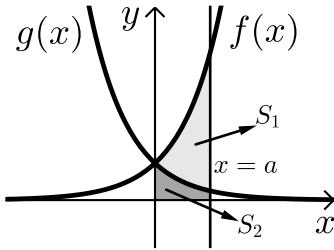
$$\text{בראשית הצירים וציר ה-} y \text{ הוא } \frac{e-2}{4}.$$

מצא את ערכו של הפרמטר  $b$ .

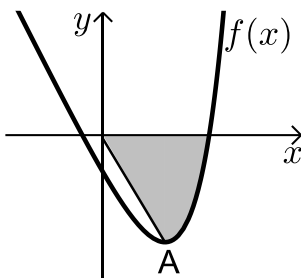
**14** נתונות הפונקציות:  $f(x) = e^{\frac{1}{2}x}$ ,  $g(x) = e^{-x}$ .

מנקודה הנמצאת על גרף הפונקציה  $g(x)$  ברביע הראשון הורידו אנך לשני  
הצירים. המשך האנך לציר ה- $y$  חותך את הפונקציה  $f(x)$  ומנקודת החיתוך  
יורד אנך נוסף לציר ה- $x$  כך שנוצר מלבן.

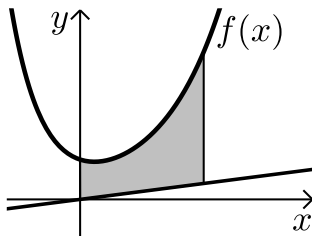
הוכח כי שטחו המקסימלי של מלבן כזה הוא  $\frac{3}{e}$ .



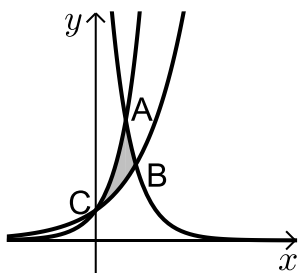
- 15** באיור שלפניך מתוארים הגרפים של הפונקציות:  $f(x) = e^{2x}$  ו-  $g(x) = e^{-2x} - 1$ . מעבירים אנך לציר ה- $x$  את הישר  $x = a$ ,  $a > 0$ , כמתואר באיור. אנך זה יוצר את השטחים  $S_1$  ו- $S_2$ . ידוע כי השטח  $S_1$  גדול פי 3 מהשטח  $S_2$ . מצא את  $a$ .



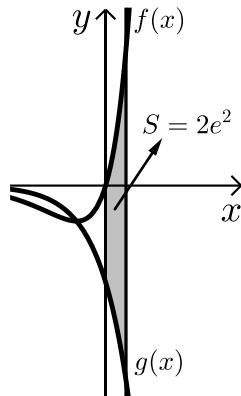
- 16** נתונה הפונקציה:  $f(x) = e^{2x-1} - 2ex - 2$ . הנקודה A היא נקודת המינימום של הפונקציה. א. מצא את שיעורי הנקודה A. מחברים את הנקודה A עם ראשית הצירים. ב. כתוב את משוואת הישר המחבר את הנקודה A עם הראשית. ג. חשב את השטח הכלוא בין גרף הפונקציה, הישר וציר ה- $x$ , אם ידוע כי גרף הפונקציה חותך את ציר ה- $x$  בנקודה שבה  $x = 1.7$ .



- 17** נתונה הפונקציה:  $f(x) = \frac{e^x + e^{ax}}{4}$ . ידוע כי הפונקציה עוברת דרך הנקודה:  $(1, \frac{e^3 + 1}{4e^2})$ . א. מצא את  $a$  וכתוב את הפונקציה. ב. באיור שלפניך מתואר גרף הפונקציה  $f(x)$  והישר:  $y = 0.1x$ . חשב את השטח המוגבל בין גרף הפונקציה, הישר, ציר  $y$  והאנך:  $x = 2$ .



- 18** באיור שלפניך מתוארים הגרפים של שלוש פונקציות: I.  $f(x) = 2^x$ . II.  $g(x) = 4^x$ . III.  $h(x) = 2^{4-2x}$ . א. קבע איזה גרף מתאר כל פונקציה. ב. מצא את שיעורי הנקודות A, B ו-C (נקודות החיתוך שבין הגרפים). ג. חשב את השטח המסומן באיור.



**19** ענה על הסעיפים הבאים:

א. גזור את הפונקציה הבאה:  $y = e^x(x-1)$ .

ב. באיור שלפניך מתוארים הגרפים של

הפונקציות:  $f(x) = xe^x$ ,  $g(x) = -e^x$ .

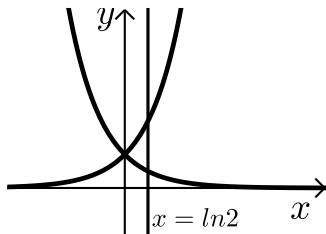
מעבירים ישר  $x = a$  ( $a > 0$ ), החותך את הגרפים

של שתי הפונקציות ויוצר את השטח המתואר

הכלוא בין הגרפים של שניהם, ציר ה- $y$  והישר.

ידוע כי שטח זה שווה ל- $2e^2$ . מצא את  $a$ .

**חישובי נפחים:**



**20** נתונות הפונקציות:  $f(x) = e^x$ ,  $g(x) = e^{-x}$ .

השטח הכלוא בין הפונקציות והישר:  $x = \ln 2$

מסתובב סביב ציר ה- $x$ .

חשב את נפח גוף הסיבוב שנוצר.

## תשובות סופיות:

- (1) א.  $5e^x - \frac{e^{3x}}{3} - e^{-x} + x + c$     ב.  $\frac{3^x}{\ln 3} + \frac{5^{2x}}{2\ln 5} + c$
- ג.  $3e^{2x-\frac{1}{2}} + c$     ד.  $\frac{1}{2}e^{2x} + 2x - \frac{1}{2}e^{-2x} + c$
- (2) א.  $e^x + x + c$     ב.  $\frac{3e^{2x}}{2} - 2e^x + 2x + c$
- (3) א.  $\frac{1}{4}e^{4x} - e^{-x} + c$     ב.  $\frac{1}{2}e^{2x+2} + c$
- ג.  $\frac{0.4^x}{\ln 0.4} + \frac{3.2^x}{\ln 3.2} + \frac{200^x}{\ln 200} + c$     ד.  $8\sqrt{e^x} - \frac{3}{4}e^{-\frac{4x}{3}} + c$
- (4) א.  $2\sqrt{e^x+3} + c$     ב.  $\frac{1}{e^x-3x} + c$     ג.  $\frac{1}{2}e^{x^2} + c$
- (5)  $f(x) = 2e^x + e^{-x} - 1.25$
- (6)  $f(x) = \frac{1}{2}e^{2x} + e^x - 2x - 1$
- (7)  $f(x) = 2e^{x^3} + \frac{1}{x} + 1$
- (8)  $S = 1\frac{1}{3}$  יח"ש
- (9)  $S = 10.72$  יח"ש
- (10)  $S = 18.41$  יח"ש
- (11)  $S = 3\frac{1}{3}$  יח"ש
- (12)  $S = 0.192$  יח"ש
- (13)  $b = 2$
- (15)  $a = \ln 2$
- (16) א.  $A(1, -e-2)$     ב.  $y = -(e+2)x$     ג.  $S = 4.744$  יח"ש
- (17) א.  $a = -2$     ב.  $f(x) = \frac{e^x + e^{-2x}}{4}$     ג.  $1.52$
- (18) א.  $A(1, 4)$ ,  $B\left(1\frac{1}{3}, 2.52\right)$ ,  $C(0, 1)$     ב.  $1.03$  יח"ש
- (19) א.  $y' = xe^x$     ב.  $a = 2$
- (20)  $1\frac{1}{8}$  יח"ש

## פונקציה לוגריתמית:

**סיכום כללי:**

**אינטגרלים מיידיים של פונקציות לוגריתמיות:**

אינטגרל יסודי	אינטגרל של פונקציה מורכבת
$\int \frac{1}{x} dx = \ln x  + c$	$\int \frac{1}{ax+b} dx = \frac{1}{a} \ln ax+b  + c$

**שאלות:**

**אינטגרל כללי:**

(1) חשב את האינטגרלים הבאים:

$$\int \left( \frac{3}{x} + \frac{2}{x+1} - \frac{4}{3x-1} \right) dx \quad \text{א.} \quad \int \frac{x^2+3x-4}{x} dx \quad \text{ב.} \quad \int \frac{x+3}{x^2-9} dx \quad \text{ג.}$$

(2) חשב את האינטגרלים הבאים:

$$\int \frac{x^2+3x+5}{x+1} dx \quad \text{א.} \quad \int \frac{x^3-x^2+5x-6}{x-2} dx \quad \text{ב.} \quad \int \frac{x^4+3}{x+1} dx \quad \text{ג.}$$

(3) חשב את האינטגרלים הבאים:

$$\int \frac{2x}{x^2-3} dx \quad \text{א.} \quad \int \frac{x-1}{x^2-2x} dx \quad \text{ב.} \quad \int \frac{e^x}{e^x+5} dx \quad \text{ג.} \\ \int \frac{e^x - e^{-x}}{e^x + e^{-x}} dx \quad \text{ד.} \quad \int \frac{\cos x}{\sin x} dx \quad \text{ה.}$$

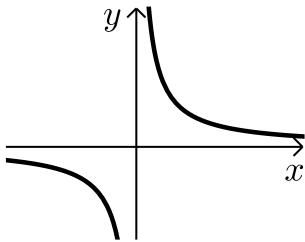
**אינטגרל מסוים:**

(4) נתונה נגזרת של פונקציה:  $f'(x) = 2x - \frac{1}{x-4}$ .

מצא את הפונקציה אם ידוע שהיא עוברת בנקודה (5, 28).

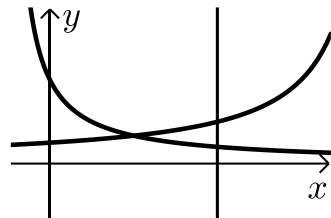
- (5) נתונה נגזרת שנייה של פונקציה:  $f''(x) = 6x - \frac{1}{x^2}$ . מצא את הפונקציה אם ידוע שהיא עוברת בנקודה  $(1, -2)$  וששיפועה בנקודה זו הוא 3.

**חישובי שטחים:**



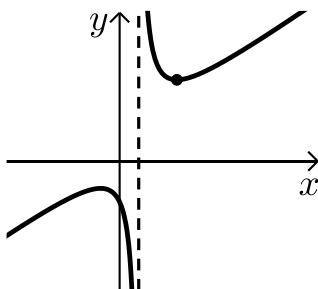
- (6) נתונה הפונקציה:  $f(x) = \frac{1}{x}$ .

חשב את גודל השטח הכלוא בין הפונקציה, הישרים  $x = -1$  ו- $x = -4$  וציר ה- $x$ . ניתן להשאיר  $\ln$  בתשובה.



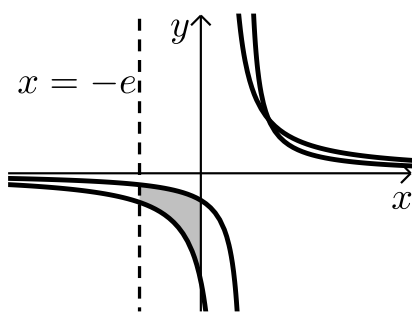
- (7) נתונות הפונקציות:  $f(x) = \frac{2}{x+1}$ ,  $f(x) = \frac{4}{8-x}$ .

חשב את גודל השטח הכלוא בין הפונקציות, הישר  $x = 4$  והצירים.



- (8) נתונה הפונקציה:  $f(x) = \frac{x^2 + 3}{x - 1}$ .

חשב את גודל השטח הכלוא בין גרף הפונקציה, המשיק לפונקציה בנקודה שבה  $x = 2$  ואנך לציר ה- $x$  העובר בנקודת המינימום של הפונקציה. אפשר להשאיר ביטוי עם  $\ln$  בתשובה.



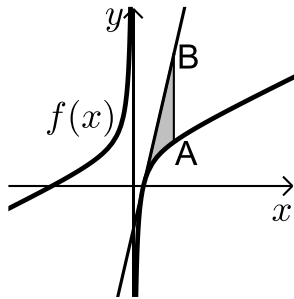
- (9) באיור שלפניך נתונות הפונקציות:  $f(x) = \frac{a}{x-1}$ .

ו-  $g(x) = \frac{a-1}{x-2}$  בתחום:  $x < 0$ .

ידוע כי הגרפים של הפונקציות נחתכים בנקודה שבה  $x = 3$ .

א. מצא את  $a$  וכתוב את שתי הפונקציות.

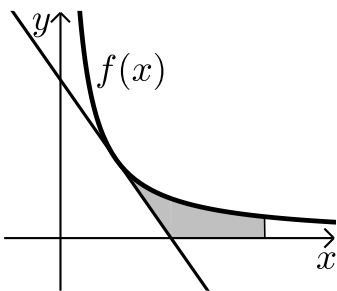
ב. חשב את השטח המוגבל ע"י הגרפים של שתי הפונקציות, ציר ה- $y$  והישר  $x = -e$ .



**10** נתונה הפונקציה:  $f(x) = 7 + ax + \frac{b}{x}$ .

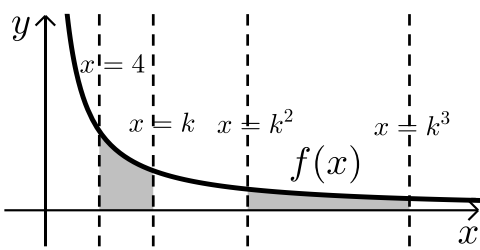
ידוע כי משוואת המשיק לגרף הפונקציה  
בנקודת החיתוך שלה עם ציר ה- $x$  היא:  $y = 18x - 9$ .  
א. מצא את  $a$  ו- $b$  וכתוב את הפונקציה.  
מעבירים ישר המקביל לציר ה- $y$  שחותך את גרף  
הפונקציה בנקודה A ואת משוואת המשיק בנקודה B.  
אורך הקטע AB הוא 18.

- ב. מצא את משוואת הישר הנ"ל אם ידוע כי הנקודה A  
נמצאת מימין לנקודת החיתוך של גרף הפונקציה עם ציר ה- $x$ .  
ג. חשב את השטח המוגבל בין גרף הפונקציה, המשיק והישר.



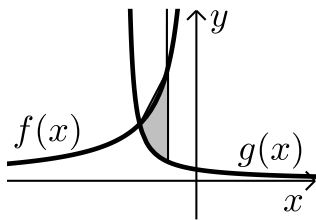
**11** הנגזרת של הפונקציה  $f(x)$  היא:  $f'(x) = -\frac{4}{x^2}$ .

משוואת המשיק לגרף הפונקציה בנקודה  
שבה:  $x = 2$  היא:  $y = 4 - x$ .  
א. מצא את הפונקציה  $f(x)$ .  
ב. באיור שלפניך מתוארים גרף הפונקציה  $f(x)$   
והמשיק בתחום:  $x > 0$ .  
חשב את השטח המוגבל בין גרף הפונקציה, המשיק,  
ציר ה- $x$  והישר  $x = e^2$ .



**12** באיור שלפניך נתונה הפונקציה:  $f(x) = \frac{2}{x}$ .

בתחום:  $x > 0$ . מעבירים את הישרים:  
 $x = 4$ ,  $x = k$ ,  $x = k^2$ ,  $x = k^3$   
כמתואר  $x > 4$ .  
א. הבע באמצעות  $k$  את השטחים  $S_1$  ו- $S_2$ .  
ב. הראה כי ההפרש:  $S_2 - S_1$  אינו תלוי ב- $k$  וחשב את ערכו.  
ג. נתון כי השטח  $S_2$  גדול פי 3 מהשטח  $S_1$ . מצא את  $k$ .



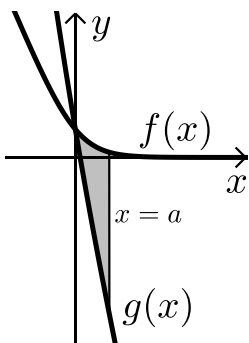
**13** נתונות הפונקציות:  $f(x) = -\frac{4}{x}$  ו-  $g(x) = \frac{k}{2x+5}$ .

גרף הפונקציה  $g(x)$  חותך את ציר ה- $y$  בנקודה שבה  $y = 0.4$ .

א. מצא את הפונקציה  $g(x)$ .

ב. מצא את נקודת החיתוך של שני הגרפים.

ג. חשב את השטח המוגבל ע"י שני הגרפים והישר  $x = -1$ .



**14** באיור מתוארים הגרפים של הפונקציות:

$f(x) = \ln(e^{-x} + 1)$  ו-  $g(x) = \ln(e^{-2x} + e^{-3x})$

בתחום:  $(x \geq 0)$ .

א. הראה כי הגרפים נחתכים על ציר ה- $y$ .

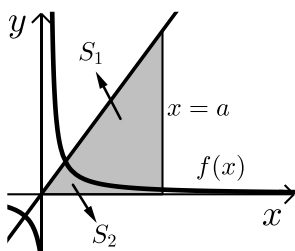
ב. מעבירים ישר  $x = a$ ,  $(a > 1)$  המאונך

לציר ה- $x$  אשר חותך את הגרפים של שתי

הפונקציות ויוצר את השטח  $S$  (ראה איור).

מצא את ערכו של  $a$  עבורו מתקיים:  $S = 4$ .

**15** באיור שלפניך מתוארים הגרפים של הפונקציה:  $f(x) = \frac{2}{3x-1}$  והישר:  $y = x$ .



א. מצא את נקודת החיתוך של הפונקציות הנמצאת ברביע הראשון.

מעבירים אנך לציר ה- $x$   $x = a$  הנמצא מימין

לנקודת החיתוך שמצאת בסעיף הקודם.

האנך חותך את הגרפים ויוצר את השטחים  $S_1$  ו- $S_2$

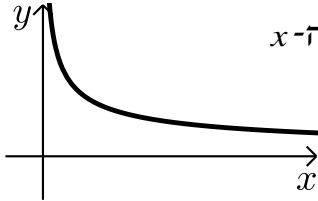
המתוארים האיור.

ב. מצא את הערך של  $a$  עבורו השטח  $S_2$  יהיה שווה ל-  $\frac{1}{2} + \frac{2}{3} \ln 7$ .

ג. עבור ערך ה- $a$  שמצאת בסעיף הקודם חשב את יחס השטחים:  $\frac{S_1}{S_2}$ .

## חישובי נפחים:

$$(16) \text{ נתונה הפונקציה: } f(x) = \frac{1}{\sqrt{x}}$$



השטח הכלוא בין הפונקציה, הישרים  $x=1$  ו- $x=3$  וציר ה- $x$  מסתובב סביב ציר ה- $x$ . מצא את נפח גוף הסיבוב שנוצר באופן זה. אפשר להשאיר  $\ln$  בתשובה.

$$(17) \text{ נתונה הפונקציה: } f(x) = \frac{e^x}{\sqrt{e^{2x}+1}}$$

השטח הכלוא בין הפונקציה, הצירים והישר  $x = \ln \sqrt{3}$  מסתובב סביב ציר ה- $x$ . חשב את נפח גוף הסיבוב שנוצר.

$$(18) \text{ נתונה הפונקציה: } f(x) = \sqrt{x} + \frac{2}{\sqrt{x}}$$

השטח הכלוא בין הפונקציה, הישרים  $x=a$  ו- $x=a+3$  ( $a > 0$ ), וציר ה- $x$  מסתובב סביב ציר ה- $x$ . חשב את נפח גוף הסיבוב המינימלי שנוצר באופן זה.

## תשובות סופיות:

$$\ln|x-3|+c \quad \lambda \quad \frac{x^2}{2}+3x-4\ln|x|+c \quad \text{ב.} \quad 3\ln|x|+2\ln|x+1|-\frac{4\ln|3x-1|}{3}+c \quad \text{א.} \quad (1)$$

$$\frac{x^3}{3}+\frac{x^2}{2}+7x+8\ln|x-2|+c \quad \text{ב.} \quad \frac{x^2}{2}+2x+3\ln|x+1|+c \quad \text{א.} \quad (2)$$

$$\frac{x^4}{4}-\frac{x^3}{3}+\frac{x^2}{2}-x+4\ln|x+1|+c \quad \lambda$$

$$\ln|e^x+5|+c \quad \lambda \quad \frac{1}{2}\ln|x^2-2x|+c \quad \text{ב.} \quad \ln|x^2-3|+c \quad \text{א.} \quad (3)$$

$$\ln|\sin x|+c \quad \text{ה.} \quad \ln|e^x+e^{-x}|+c \quad \text{ז.}$$

$$f(x)=x^2-\ln|x-4|+3 \quad (4)$$

$$f(x)=x^3+\ln|x|-x-2 \quad (5)$$

$$S = \text{יח"ש} \ln 4 \quad (6)$$

$$S = \text{יח"ש} 2.17 \quad (7)$$

$$S = \text{יח"ש} 4\ln 2 - 2 \quad (8)$$

$$S = \text{יח"ש} 1.76 \quad \text{ב.} \quad f(x)=\frac{2}{x-1}, \quad g(x)=\frac{1}{x-2}, \quad a=2 \quad \text{א.} \quad (9)$$

$$x=2 \quad \text{ב.} \quad f(x)=7+2x-\frac{4}{x}, \quad a=2, \quad b=-4 \quad \text{א.} \quad (10)$$

$$S = 6 + \ln 256 \approx \text{יח"ש} 11.54 \quad \lambda$$

$$S = \text{יח"ש} 6 - 4\ln 2 \quad \text{ב.} \quad f(x)=\frac{4}{x} \quad \text{א.} \quad (11)$$

$$k=8 \quad \lambda \quad S_2 - S_1 = \ln 16 \quad \text{ב.} \quad S_1 = 2\ln k - \ln 16, \quad S_2 = 2\ln k \quad \text{א.} \quad (12)$$

$$S = \text{יח"ש} \ln 5 \frac{1}{3} \approx 1.674 \quad \lambda \quad (-2, 2) \quad \text{ב.} \quad g(x)=\frac{2}{2x+5} \quad \text{א.} \quad (13)$$

$$a=2 \quad \text{ב.} \quad (14)$$

$$\frac{S_1}{S_2} = 5.955 \quad \lambda \quad a=5 \quad \text{ב.} \quad (1, 1) \quad \text{א.} \quad (15)$$

$$V = \text{יח"נ} \pi \ln 3 \quad (16)$$

$$V = \text{יח"נ} \frac{\pi}{2} \ln 2 \quad (17)$$

$$V = \text{יח"נ} \pi \left( 19 \frac{1}{2} + 4\ln 4 \right) \quad (18)$$

## פונקצית חזקה עם מעריך רציונאלי:

### סיכום כללי:

אינטגרלים מיידיים של פונקצית חזקה עם מעריך רציונאלי:

אינטגרל יסודי	אינטגרל של פונקציה מורכבת
$\int \sqrt[n]{x^m} dx = \int x^{\frac{m}{n}} dx = \frac{x^{\frac{m}{n}+1}}{\frac{m}{n}+1} + c$	$\int \sqrt[n]{(ax+b)^m} dx = \int (ax+b)^{\frac{m}{n}} dx = \frac{(ax+b)^{\frac{m}{n}+1}}{a \cdot \left(\frac{m}{n}+1\right)} + c$

תנאי לקיום האינטגרציה:  $\frac{m}{n} \neq -1$ .

### שאלות:

אינטגרל של פונקצית חזקה:

(1) חשב את האינטגרלים הבאים:

$$\begin{array}{lll} \int (x \cdot \sqrt[5]{x}) dx & \text{ג.} & \int (4x - 2\sqrt[4]{x}) dx & \text{ב.} & \int \sqrt[3]{x} dx & \text{א.} \\ \int \frac{x^3 - 3x + 5}{\sqrt{x}} dx & \text{ו.} & \int \frac{x+4}{\sqrt[4]{x}} dx & \text{ה.} & \int \frac{3}{\sqrt[3]{x}} dx & \text{ד.} \\ \int \frac{3}{\sqrt[8]{7x+12}} dx & \text{ט.} & \int \sqrt[4]{5-x} dx & \text{ח.} & \int \sqrt[3]{2x-3} dx & \text{ז.} \\ & & & & \int \frac{7}{\sqrt[5]{14-2x}} dx & \text{י.} \end{array}$$

(2) חשב את ערכי האינטגרלים הבאים:

$$\begin{array}{lll} \int_{-10}^5 \frac{2}{\sqrt[4]{6-x}} dx & \text{ג.} & \int_3^{16} (\sqrt[4]{5x+1}) dx & \text{ב.} & \int_0^8 (x + \sqrt[5]{4x}) dx & \text{א.} \end{array}$$

**אינטגרל מסוים:**

(3) נתונה הנגזרת הבאה:  $f'(x) = 2x - \sqrt[3]{4x}$

ידוע כי הפונקציה עוברת בנקודה  $(2, 3)$ .  
מצא את הפונקציה.

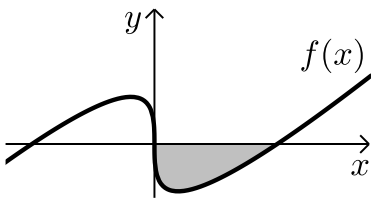
(4) נתונה הנגזרת הבאה:  $f'(x) = \sqrt[3]{5x+7}$

ידוע כי הפונקציה חותכת את ציר ה- $x$  בנקודה שבה  $x = 4$ .  
מצא את הפונקציה.

(5) נתונה הנגזרת הבאה:  $f'(x) = \frac{10}{\sqrt[3]{x+1}} + (x-1)^2$

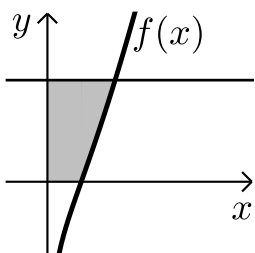
ידוע כי הפונקציה חותכת את ציר ה- $y$  בנקודה שבה  $y = -6$ .  
מצא את הפונקציה.

**חישובי שטחים:**



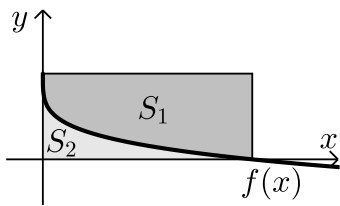
(6) באיור שלפניך מופיע גרף הפונקציה:  $f(x) = x - 4\sqrt[3]{x}$

- א. מצא את נקודות החיתוך של הפונקציה עם ציר ה- $x$ .  
ב. חשב את השטח הנוצר בין גרף הפונקציה והצירים.



(7) באיור שלפניך מצויר גרף הפונקציה:  $f(x) = \frac{x^2 - 4}{\sqrt{x}}$

- א. מהו תחום ההגדרה של הפונקציה?  
ב. מצא את נקודת החיתוך של הפונקציה עם ציר ה- $x$ .  
ג. מעבירים אנך לציר ה- $y$  מהנקודה  $(4, 6)$ .  
חשב את השטח הנוצר בין גרף הפונקציה, האנך והצירים.



8 באיור שלפניך מתואר גרף הפונקציה:  $f(x) = 2 - \sqrt[4]{x}$ .

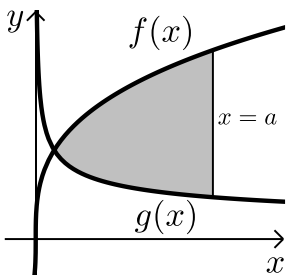
מעבירים אנכים לצירים מנקודות החיתוך של

גרף הפונקציה עם הצירים כך שנוצר מלבן.

מסמנים את השטח שבין גרף הפונקציה והצירים:

ב-  $S_1$  ואת השטח שבין גרף הפונקציה והאנכים ב-  $S_2$ .

מצא את היחס:  $\frac{S_1}{S_2}$ .



9 באיור שלפניך נתונים הגרפים של הפונקציות

הבאות:  $f(x) = 4\sqrt[3]{x}$ ,  $g(x) = \frac{1}{\sqrt[3]{x}}$ .

א. מצא את נקודת החיתוך של הגרפים בתחום:  $x > 0$ .

ב. מעבירים אנך לציר ה- $x$ ,  $x = a$ , ( $a$  פרמטר).

ידוע כי השטח שנוצר בין שני הגרפים מנקודת

החיתוך שלהם ועד לאנך הוא:  $42\frac{3}{16}$  סמ"ר.

מצא את  $a$ .

10 נתונה הפונקציה:  $f(x) = \sqrt[4]{5x+6} - ax$ , ( $a$  פרמטר).

ידוע כי גרף הפונקציה חותך את ציר ה- $x$  בנקודה שבה  $x = 2$ .

א. מצא את הפרמטר  $a$  וכתוב את הפונקציה.

ב. מהו תחום ההגדרה של הפונקציה?

ג. מצא את נקודת קיצון הקצה של הפונקציה.

ד. מצא את משוואת המשיק לגרף הפונקציה העובר

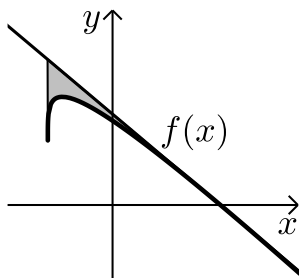
דרך נקודת החיתוך שלה עם ציר ה- $x$ .

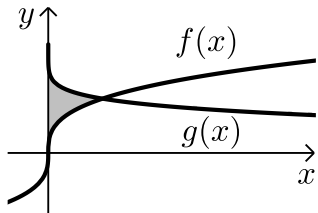
ה. באיור שלפניך מתואר גרף הפונקציה  $f(x)$

והמשיק שמצאת בסעיף הקודם. מורידים אנך

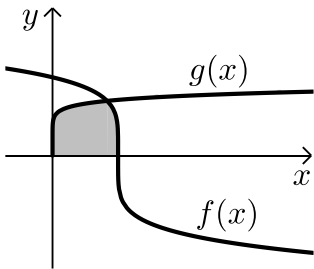
מהמשיק אל נקודת קיצון הקצה של הפונקציה שמצאת בסעיף ג'.

חשב את השטח הנוצר בין גרף הפונקציה  $f(x)$  והמשיק.

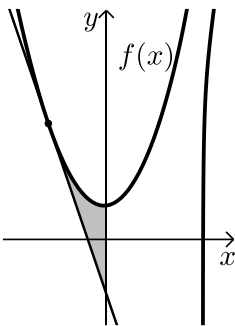




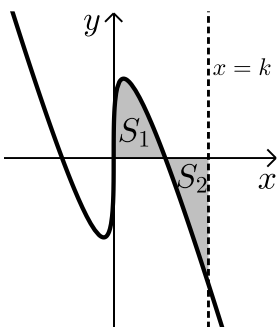
- 11** באיור שלפניך נתונים הגרפים של הפונקציות:  $f(x) = \sqrt[3]{x}$ ,  $g(x) = 2 - \sqrt{x}$ .  
 א. מצא את נקודת החיתוך של הגרפים.  
 ב. חשב את השטח הכלוא בין שני הגרפים וציר ה- $y$ .



- 12** הנגזרת של הפונקציה  $f(x)$  היא:  $f'(x) = -\frac{1}{\sqrt[5]{(6-5x)^4}}$ .  
 ידוע כי הפונקציה חותכת את ציר ה- $x$  בנקודה שבה:  $x = 1.2$ .  
 א. מצא את הפונקציה  $f(x)$ .  
 ב. חשב את השטח הכלוא בין גרף הפונקציה  $f(x)$ , גרף הפונקציה  $g(x) = \sqrt[10]{x}$  וציר ה- $x$ .



- 13** נתונה הפונקציה:  $f(x) = \frac{3}{\sqrt[3]{5-x}} + \frac{1}{2}x^2$ .  
 א. מצא את משוואת המשיק לגרף הפונקציה בנקודה שבה  $x = -3$ .  
 ב. חשב את השטח הכלוא בין גרף הפונקציה  $f(x)$ , המשיק וציר ה- $y$ .



- 14** נתונה הפונקציה:  $f(x) = \sqrt[3]{x} - 4x$ .  
 א. מהו תחום ההגדרה של הפונקציה?  
 ב. מצא את נקודות החיתוך של הפונקציה עם ציר ה- $x$ .  
 ג. באיור שלפניך מתואר גרף הפונקציה ברביע הראשון. השטח הכלוא בין גרף הפונקציה וציר ה- $x$  יסומן ב- $S_1$ . מעבירים ישר  $x = k$  אשר יוצר את השטח  $S_2$  כמתואר. מצא את  $k$  אם ידוע כי:  $S_1 = S_2$ .

## תשובות סופיות:

- (1) א.  $0.75\sqrt[3]{x^4} + c$     ב.  $2x^2 - 1.6\sqrt[4]{x^5} + c$     ג.  $\frac{5}{11}\sqrt[5]{x^{11}} + c$
- ד.  $4.5\sqrt[3]{x^2} + c$     ה.  $\frac{4}{7}\sqrt[4]{x^7} + \frac{16}{3}\sqrt[4]{x^3} + c$     ו.  $\frac{2}{7}\sqrt{x^7} - 2\sqrt{x^3} + 10\sqrt{x} + c$
- ז.  $\frac{3}{8}\sqrt[3]{(2x-3)^4} + c$     ח.  $-0.8\sqrt[4]{(5-x)^5} + c$     ט.  $\frac{24}{49}\sqrt[8]{(7x+12)^7} + c$
- י.  $-\frac{35}{8}\sqrt[5]{(14-2x)^4} + c$
- (2) א.  $45\frac{1}{3}$     ב. 33.76    ג.  $18\frac{2}{3}$
- (3)  $f(x) = x^2 - \frac{3}{16}\sqrt[3]{(4x)^4} + 2$
- (4)  $f(x) = \frac{3}{20}\sqrt[3]{(5x+7)^4} - 12.15$
- (5)  $f(x) = 12.5\sqrt[5]{(x+1)^4} + \frac{1}{3}(x-1)^3 - 18\frac{1}{6}$
- (6) א.  $(0,0)$  ;  $(8,0)$     ב. 16 יח"ש = S
- (7) א.  $x > 0$     ב.  $(2,0)$     ג. 18.149 יח"ש = S
- (8)  $\frac{S_1}{S_2} = 4$
- (9) א.  $\left(\frac{1}{8}, 2\right)$     ב.  $a = 8$
- (10) א.  $f(x) = \sqrt[4]{5x+6} - x$  ,  $a = 1$     ב.  $x \geq -1.2$     ג.  $(-1.2, 1.2)$
- ד.  $y = -\frac{27}{32}x + \frac{27}{16}$     ה. 0.48 יח"ש = S
- (11) א.  $(1,1)$     ב.  $\frac{11}{28}$  יח"ש = S
- (12) א.  $f(x) = (6-5x)^{\frac{1}{5}}$     ב.  $1\frac{5}{66}$  יח"ש = S

$$y = -2\frac{15}{16}x - \frac{45}{16} \quad \text{א. (13)} \quad \text{ב. } S = 4.56 \text{ יח"ש}$$

$$k = \left(\frac{3}{8}\right)^{1.5} = 0.2296.. \quad \text{ג. } (0,0), \left(\frac{1}{8}, 0\right), \left(-\frac{1}{8}, 0\right) \quad \text{ב.} \quad \text{א. כל } x \quad \text{(14)}$$

# מכינה למבחן פטור (חדוא 0)

פרק 25 - חשבון דיפרנציאלי - הזזות ומתיחות של פונקציות

תוכן העניינים

433	1. הוספת קבוע לפונקציה
441	2. הזזת פונקציה ימינה ושמאלה
445	3. היפוך גרף פונקציה ביחס לציר $y$
450	4. הכפלת פונקציה בקבוע
457	5. מתיחה וכיווץ של פונקציה
462	6. ערך מוחלט של פונקציה
466	7. הקדמה כללית

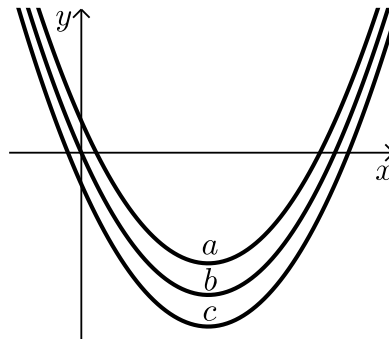
## הוספת קבוע לפונקציה:

### שאלות:

(1) סרטט במערכת צירים אחת את גרף הפונקציה  $f(x) = x^2$  ואת הגרף  $y = f(x) + k$  עבור  $k = 1$  ו- $k = -4$ .

(2) נתונה הפונקציה:  $f(x) = -2x^2$ . מגדירים את הפונקציה:  $g(x) = f(x) + b$ .  
 א. מהו ערך הפרמטר  $b$  עבורו גרף הפונקציה  $g(x)$  יעבור בנקודה  $(2, 10)$ ?  
 ב. מצא את ערך הפרמטר  $b$  עבורו  $g(x)$  תקבל ערך מקסימלי של 4.  
 ג. מצא את ערך הפרמטר  $b$  עבורו  $g(x)$  תקבל ערך מקסימלי של -3.

(3) לפניך שלוש גרפים של פונקציות:  
 $f(x) = x^2 - 6x$ ,  $g(x) = x^2 - 6x - 2$ ,  $h(x) = x^2 - 6x + 2$   
 התאם כל גרף מבין הגרפים  $a, b$  ו- $c$  לכל פונקציה:



(4) נתונה הפונקציה:  $f(x) = x^3 - 4x$ . מגדירים את הפונקציה:  $g(x) = f(x) + A$ .  
 כאשר  $A$  הוא פרמטר השונה מאפס.  
 א. הבע באמצעות  $A$  את הפונקציה  $g(x)$ .  
 ב. מהו  $A$  עבורו גרף הפונקציה  $g(x)$  יהיה נמוך משל  $f(x)$  ב-5 יחידות?  
 ג. מהו  $A$  עבורו גרף הפונקציה  $g(x)$  יחתוך את ציר ה- $y$  בנקודה שבה  $y = 3$ ?

$$(5) \quad \text{נתונות שתי פונקציות: } f(x) = \frac{3-2x}{x} \text{ ו- } g(x) = \frac{3}{x}.$$

- א. הראה כי גרף הפונקציה  $f(x)$  נמצא מתחת לגרף הפונקציה  $g(x)$  לכל ערך של  $x$  וחשב בכמה יחידות  $f(x)$  מתחת ל- $g(x)$ .
- ב. כתוב פונקציה שערכיה יהיו גדולים משל  $g(x)$  ב-4 יחידות לכל  $x$ .

$$(6) \quad \text{נתונה הפונקציה: } f(x) = \frac{2}{x^2}. \text{ מגדירים את הפונקציה: } g(x) = f(x) + B, \quad B \neq 0.$$

- א. מהן האסימפטוטות האופקיות של  $f(x)$  ושל  $g(x)$ ?
- ב. סרטט במערכת צירים אחת באופן איכותי את הגרפים של הפונקציות  $f(x)$  ו- $g(x)$  עבור  $B > 0$ .
- ג. האם גרף הפונקציה  $g(x)$  חותך את ציר ה- $x$  עבור  $B > 0$ ? נמק אלגברית וגרפית (היעזר בסעיף הקודם).
- ד. מצא את  $B$  עבורו גרף הפונקציה  $g(x)$  יחותך את ציר ה- $x$  בנקודה שבה  $x=2$  וקבע איזה גרף מבין השניים יהיה מעל השני ובכמה יחידות.

$$(7) \quad \text{מצא בכמה יחידות יש להוריד את גרף הפונקציה } f(x) = \frac{x}{x^2+1} \text{ על מנת שהיא תהיה אי-חיובית בכל תחום הגדרתה.}$$

$$(8) \quad \text{הפונקציה: } f(x) = \sqrt{x} + b, \quad (b \text{ פרמטר}) \text{ חותכת את ציר ה-} x \text{ בנקודה שבה } x=9. \text{ מצא בכמה יחידות היא נמוכה מהפונקציה: } g(x) = \sqrt{x}.$$

$$(9) \quad \text{נתונה הפונקציה: } f(x) = \sqrt{9-x^2}.$$

- א. מצא את תחום ההגדרה של הפונקציה, נקודת הקיצון המקומית שלה ונקודות החיתוך שלה עם הצירים.
- ב. מגדירים את הפונקציה  $g(x) = f(x) + 3$ .
- סרטט במערכת צירים את הגרפים של הפונקציות  $f(x)$  ו- $g(x)$ .

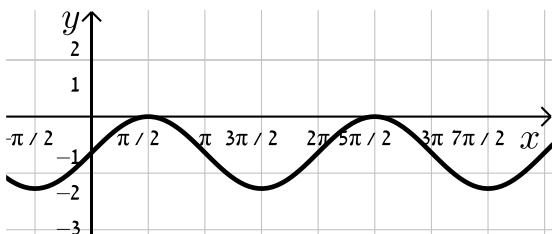
**10** נתונה הפונקציה:  $f(x) = \frac{x+b}{(x+a)^2}$ ,  $a, b \neq 0$ . ידוע כי לפונקציה נקודת קיצון  $\left(-1, \frac{1}{4}\right)$ .

- א. מצא את ערכי הפרמטרים  $a$  ו- $b$ .  
 ב. חקור את הפונקציה לפי: תחום ההגדרה, נקודות קיצון וסוגן, תחומי עלייה וירידה, נקודות חיתוך עם הצירים, אסימפטוטות המקבילות לצירים, סרטוט סקיצה.  
 ג. מגדירים:  $g(x) = f(x) + k$ . מצא לאלו ערכי  $k$  יהיה גרף הפונקציה  $g(x)$  כולו מתחת לציר ה- $x$ .

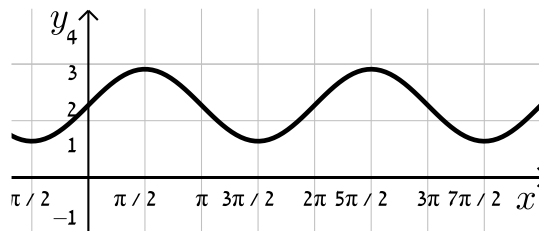
**11** נתונה הפונקציה:  $f(x) = \sin x + b$ .

קבע את הערך של  $b$  בכל אחד מהמקרים הבאים:

ב.



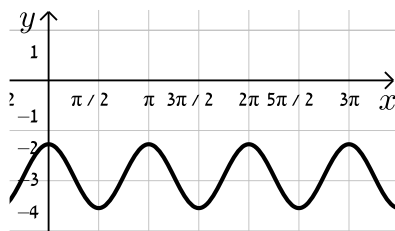
א.



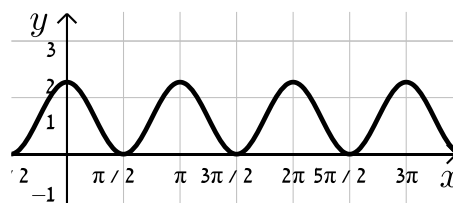
**12** נתונה הפונקציה:  $f(x) = \cos 2x + b$ .

קבע את הערך של  $b$  בכל אחד מהמקרים הבאים:

ב.



א.



**13** נתונה הפונקציה  $f(x) = \frac{a}{x+1} + \frac{x+1}{x+b}$  ( $a, b$  פרמטרים).

ידוע כי הפונקציה  $g(x) = \frac{1}{x^2 + 3x + 2}$  מקיימת:  $f(x) = g(x) + k$

כאשר  $k$  הוא ערך קבוע כלשהו.

- א. מצא את ערכי הפרמטרים  $a$ ,  $b$  ו- $k$ .  
 ב. מצא את נקי הקיצון ואת תחומי העלייה והירידה של שתי הפונקציות.  
 ג. הראה כי לפונקציות אין נקודות פיתול.  
 ד. סרטט במערכת צירים אחת את הגרפים של שתי הפונקציות  $f(x)$  ו- $g(x)$ .  
 ציין על הגרפים את נקודות הקיצון והחיתוך עם הצירים.

14 נתונה הפונקציה הבאה:  $f(x) = \frac{\sqrt{x^2+a}}{x+1}$ , פרמטר  $a$ .

ידוע כי הפונקציה מקבלת ערך מינימלי של  $-\sqrt{2}$ .

א. מצא את  $a$  וכתוב את הפונקציה  $f(x)$ .

ב. חקור את הפונקציה לפי: תחום הגדרה, נקודות קיצון וסוגן, תחומי עלייה וירידה, נקודות חיתוך עם הצירים, מציאת אסימפטוטות המקבילות לצירים, סרטוט סקיצה של גרף הפונקציה.

ג. מגדירים פונקציה:  $g(x) = f(x) + k$ . מצא את הערכים של  $k$  עבורם לפונקציה

$g(x)$  ולציר ה- $x$  לא יהיו נקודות משותפות כלל.

15 נתונה הפונקציה הבאה:  $f(x) = \frac{a}{\sqrt{ax^2+2x+2}}$ , פרמטר  $a \neq 0$ .

א. עבור אלו ערכים של  $a$  הפונקציה מוגדרת לכל  $x$ ?

ב. הבע באמצעות  $a$  את נקודת הקיצון של הפונקציה וקבע את סוגה אם נתון שהפונקציה מוגדרת לכל  $x$ .

ג. ידוע כי לפונקציה:  $g(x) = f(x) - a$  יש נקודת קיצון על ציר ה- $x$ .

מצא את ערכו של  $a$ .

16 נתונה הפונקציה הבאה:  $f(x) = \frac{\sin x + a}{\cos x + 1}$  בתחום  $-\frac{\pi}{2} < x < \frac{\pi}{2}$ , פרמטר  $a$ .

א. עבור אילו ערכים של  $a$  אין לפונקציה נקודות קיצון בתחום הנתון.

ב. מגדירים פונקציה נוספת ע"י הוספת הקבוע  $k$  באופן הבא:  $g(x) = f(x) + k$ .

ידוע כי ל- $g(x)$  נקודת קיצון  $\left(-\frac{\pi}{4}, 3\right)$ .

מצא את ערכו של הפרמטר  $k$ .

17 נתונה הפונקציה:  $f(x) = \frac{x+2}{(2x-1)^2}$ .

א. חקור את הפונקציה לפי הסעיפים הבאים:

i. מצא את תחום ההגדרה של הפונקציה.

ii. מצא את נקודות הקיצון של הפונקציה.

iii. מצא את נקודות החיתוך של גרף הפונקציה עם הצירים.

iv. מצא את האסימפטוטות המקבילות לצירים של הפונקציה.

ב. מגדירים פונקציה נוספת:  $g(x) = \frac{9x-8x^2}{(2x-1)^2}$ .

- i. מה הוא תחום ההגדרה של הפונקציה  $g(x)$  ?
- ii. מה הן נקודות החיתוך של גרף הפונקציה  $g(x)$  עם הצירים?
- iii. הראה כי לכל נקודה  $A(x_0, y_0)$  שבתחום ההגדרה של  $f(x)$ , מתקיים:  $f(x_0) - g(x_0) = k$  ומצא את  $k$ .
- מה ניתן לומר על הקשר שבין שתי הפונקציות?
- ג. סרטט במערכת צירים אחת את הגרפים של שתי הפונקציות.

**18** נתונה הפונקציה:  $f(x) = \frac{\sqrt{x+a}}{\sqrt{x+a}}$ , כאשר  $a$  הוא פרמטר השונה מאפס.

- א. הבע את תחום ההגדרה של  $f(x)$  באמצעות  $a$  (הבחן בין שני מקרים).
- ב. הראה כי לפונקציה  $f(x)$  יש נקודת קיצון והבע את סוגה כתלות ב- $a$ .
- עבור הסעיפים הבאים הנח כי  $a=3$ .
- ג. ענה על הסעיפים הבאים:

- i. כתוב את האסימפטוטה האופקית של  $f(x)$ .
- ii. מצא את נקודות החיתוך של  $f(x)$  עם הצירים.
- iii. סרטט סקיצה של גרף הפונקציה  $f(x)$ .
- ד. מגדירים פונקציה נוספת:  $g(x) = \frac{bx+3b+(\sqrt{x+3})\sqrt{x+3}+2x+6}{x+3}$ .
- $b$  פרמטר.

- i. הבע באמצעות  $b$  את האסימפטוטה האופקית של  $g(x)$ .
- ii. היעזר בסעיפים הקודמים וקבע האם ניתן לכתוב את  $g(x)$  באופן הבא:  $g(x) = f(x) + k$ . אם כן, הבע את  $k$  באמצעות  $b$ .

## תשובות סופיות:

- (1) סרטוט בסוף.
- (2) א.  $b=18$  ב.  $b=4$  ג.  $b=-3$ .
- (3) ההתאמה:  $f(x) \rightarrow b, g(x) \rightarrow c, h(x) \rightarrow a$ .
- (4) א.  $g(x) = x^3 - 4x + A$  ב.  $A = -5$  ג.  $A = 3$ .
- (5) א. הוכחה. ב.  $h(x) = \frac{3+4x}{x}$ .
- (6) א.  $f(x) \rightarrow y=0, g(x) \rightarrow y=B$  ב. סרטוט בסוף ג. לא.
- ד.  $B = -\frac{1}{2}$ .  $f(x)$  נמצאת מעל  $g(x)$  ב-  $\frac{1}{2}$  יחידה.
- (7)  $\frac{1}{2}$  יחידה (לפחות).
- (8) 3 יחידות.
- (9) א. תחום הגדרה:  $-3 \leq x \leq 3$ , נקודת קיצון:  $\max(0,3)$ , נקודות חיתוך עם הצירים:  $(0,3), (3,0), (-3,0)$  ב. סרטוט בסוף.
- (10) א.  $a=3, b=2$  ב. תחום הגדרה:  $x \neq -3$ , נקודת קיצון:  $\max\left(-1, \frac{1}{4}\right)$ , עולה:  $-3 < x < -1$ , יורדת:  $-1 < x$ ,  $x < -3$ , חיתוך עם הצירים:  $(0, \frac{2}{9}), (-2, 0)$ .
- אסימפטוטות:  $x = -3, y = 0$  ג.  $k < -\frac{1}{4}$ .
- (11) א.  $b=2$  ב.  $b=-1$ .
- (12) א.  $b=1$  ב.  $b=-3$ .
- (13) א.  $a=1, b=2, k=1$  ב. נקודת קיצון של  $f(x)$ :  $\max\left(-1\frac{1}{2}, -3\right)$ .
- נקודת קיצון של  $g(x)$ :  $\max\left(-1\frac{1}{2}, -4\right)$ . תחום עלייה:  $x < -2$  או  $-2 < x < -1\frac{1}{2}$ , תחום ירידה:  $-1\frac{1}{2} < x < -1$  או  $-1 < x$ .
- ג. סעיף הוכחה, אין נקודות פיתול. ד. סרטוט בסוף.
- (14) א.  $a = -2$ .  $f(x) = \frac{\sqrt{x^2-2}}{x+1}$  ב. תחום הגדרה:  $x \leq -\sqrt{2}$  או  $\sqrt{2} \leq x$ , נקודת קיצון  $\min(-2, -\sqrt{2}), \max(-\sqrt{2}, 0), \min(\sqrt{2}, 0)$ . תחום עלייה:  $\sqrt{2} < x$  או  $-2 < x < -\sqrt{2}$ , תחום ירידה:  $x < -2$ .

נקודות חיתוך עם הצירים :  $(\sqrt{2}, 0), (-\sqrt{2}, 0)$ .

אסימפטוטות: יש אסימפטוטה אופקית  $y=1$  כאשר  $x \rightarrow \infty$ , כאשר  $x \rightarrow -\infty$   $y=-1$ .  
סרטוט בסוף.

ג.  $k \leq -1$  או  $k > \sqrt{2}$ .

א.  $a > \frac{1}{2}$  (15)      ב.  $\max\left(-\frac{1}{a}, \sqrt{\frac{a^3}{2a-1}}\right)$       ג.  $a=1$

א.  $a=0$  (16)      ב.  $k=3$

א.  $x \neq 0.5$  (17)      ב. אין.      ג.  $(0, 2)$       ד.  $x=0.5, y=0$

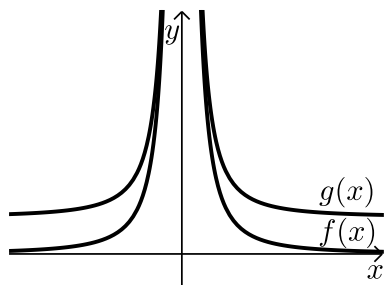
א.  $x \neq 0.5$       ב.  $(0, 0), \left(\frac{9}{8}, 0\right)$       ג.  $g(x) = f(x) - 2, k=2$       ד.  $(0, 0)$

א.  $a > 0: x \geq 0, a < 0: x > -a$  (18)      ב. אם  $a > 0$ , אז  $\max(1, \sqrt{a+1})$

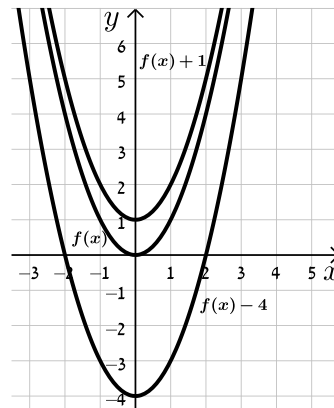
אם  $-1 < a < 0$ : אז  $\min(1, \sqrt{a+1})$       אם  $a \leq -1$ : אין קיצון.

א.  $y=1$       ב.  $(0, \sqrt{3})$       ג.  $y=b+3$       ד.  $y=b+2$ , כן

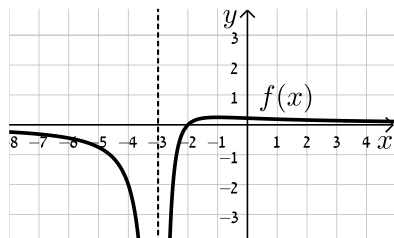
**סרטוטים מרוכזים לפי מספרי שאלות:**



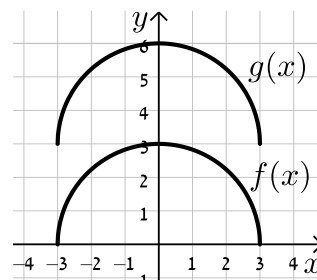
(6)



(1)

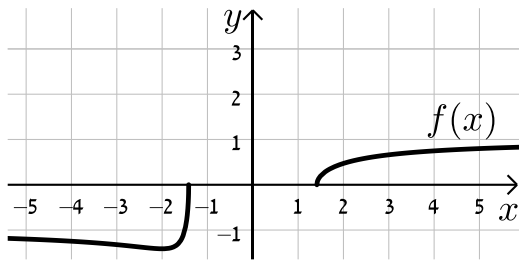


(10)

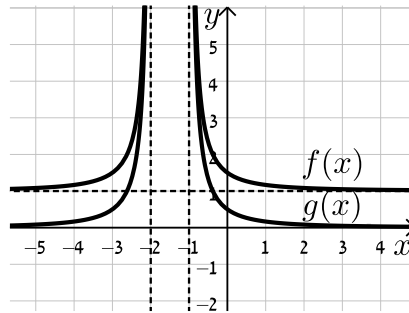


(9)

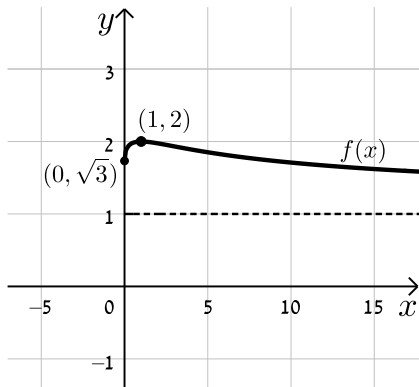
(14)



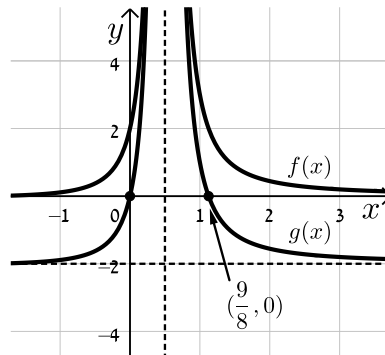
(13)



(18)



(17)



## הזזת פונקציה ימינה ושמאלה:

### שאלות:

(30) לפניך הפונקציה:  $f(x) = x^2$ .

סרטט במערכת צירים אחת את גרף הפונקציה  $f(x)$  ואת הגרפים של הפונקציות:  $g(x) = f(x-2)$  ו- $h(x) = f(x+3)$ .

(31) נתונה הפונקציה:  $f(x) = x^2$ .

א. כתוב ביטוי מפורט לפונקציה המתקבלת מהזזת  $f(x)$  3 יחידות ימינה ו-4 יחידות למעלה.

ב. כתוב ביטוי מפורט לפונקציה המתקבלת מהזזת  $f(x)$  4 יחידות שמאלה ו-2 יחידות למטה.

ג. כתוב ביטוי מפורט לפונקציה המתקבלת מהזזת  $f(x)$   $\frac{1}{2}$  יחידה שמאלה ולמעלה.

(32) נתונה פונקציה  $f(x) = x^2$ . מזיזים את הפונקציה ומקבלים:  $g(x) = f(x+a)+b$

כאשר  $a$  ו- $b$  הם פרמטרים השונים מאפס.

א. מצא את ערכי הפרמטרים  $a$  ו- $b$  אם ידוע כי:  $g(x) = x^2 + 2x$ .

ב. מצא את ערכי הפרמטרים  $a$  ו- $b$  אם ידוע כי:  $g(x) = x^2 - 4x + 7$ .

(33) מזיזים את גרף הפונקציה  $f(x) = \sqrt{x}$  5 יחידות ימינה כך שמתקבלת הפונקציה  $g(x)$ .

א. כתוב באופן מפורש את הפונקציה  $g(x)$ .

ב. מצא בכמה יחידות יש להזיז את גרף הפונקציה  $f(x)$  שמאלה על מנת

שיחתוך את ציר ה- $y$  בנקודה שבה  $y = 1$ .

(34) נתונה הפונקציה:  $f(x) = \frac{x^2 - 3x}{x+1}$ .

א. כתוב את תחום ההגדרה של  $f(x)$  ואת האסימפטוטות המקבילות לצירים.

ב. מצא את שיעורי נקודות הקיצון של הפונקציה וקבע את סוגן.

ג. כתוב את תחומי העלייה והירידה של הפונקציה.

ד. מצא את נקודות החיתוך של גרף הפונקציה עם הצירים.

- ה. סרטט סקיצה של גרף הפונקציה.
- ו. מגדירים את הפונקציה:  $g(x) = f(x-1)$ .
- i. כתוב באופן מפורש את הפונקציה  $g(x)$ .
- ii. על סמך ממצאיך מהסעיפים הקודמים, סרטט את גרף הפונקציה  $g(x)$ .

**(35)** לפניך הפונקציה:  $f(x) = \frac{x^3}{x-4}$ .

- א. חקור את הפונקציה לפי הסעיפים הבאים:
- i. מציאת תחום ההגדרה של הפונקציה.
- ii. נקודות קיצון של הפונקציה וקביעת סוגן.
- iii. תחומי עלייה וירידה של גרף הפונקציה.
- iv. מציאת נקודות חיתוך עם הצירים.
- v. מציאת אסימפטוטות המקבילות לצירים.
- vi. סרטוט סקיצה של גרף הפונקציה.
- ב. סרטט את גרף הפונקציה  $g(x) = \frac{(x+2)^3}{x-2}$  על סמך הסעיפים הקודמים.

**(36)** מזיזים את הפונקציה:  $f(x) = \sin x + \cos x$  במספר יחידות  $a$  כך שיש לה נקודת מקסימום על ציר ה- $y$ .

- א. מצא בכמה יחידות יש להזיז את הפונקציה  $f(x)$  על מנת שתקיים את הדרישה וקבע האם התזוזה היא ימינה או שמאלה. נמק.
- האם קיים רק ערך אחד של הפרמטר  $a$  אשר מקיים את דרישה זו?
- ב. היעזר בזהות:  $\cos \alpha + \cos \beta = 2 \cos \frac{\alpha + \beta}{2} \cos \frac{\alpha - \beta}{2}$  והראה כי הפונקציה המוזזת יכולה להיות מיוצגת ע"י  $g(x) = k \cos x$  ומצא את ערך הפרמטר  $k$ .

**תשובות סופיות:**

(30) סרטוט בסוף.

(31) א.  $g(x) = x^2 - 6x + 13$     ב.  $g(x) = x^2 + 8x + 14$     ג.  $g(x) = x^2 + x + \frac{3}{4}$

(32) א.  $a = 1, b = -1$     ב.  $a = -2, b = 3$

(33) א.  $g(x) = \sqrt{x-5}$     ב. 1.

(34) א. תחום הגדרה:  $x \neq -1$ , אסימפטוטות:  $x = -1$

ב. נקודות קיצון:  $\min(1, -1), \max(-3, -9)$

ג. עולה:  $x < -3, x > 1$ , יורדת:  $-3 < x < -1, -1 < x < 1$

ד. נקודות חיתוך עם הצירים:  $(0, 0), (3, 0)$

ה. סרטוט בסוף    ו. i.  $g(x) = \frac{x^2 - 5x + 4}{x}$     ii. סרטוט בסוף.

(35) א. i. תחום הגדרה:  $x \neq 4$     ii. נקודת קיצון:  $\min(6, 108)$

iii. עולה:  $x > 6$ , יורדת:  $4 < x < 6, x < 4$

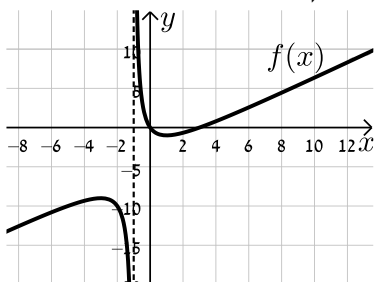
iv. נקודות חיתוך עם הצירים:  $(0, 0)$

v. אסימפטוטות:  $x = 4$     vi. סרטוט בסוף    ב. סרטוט בסוף.

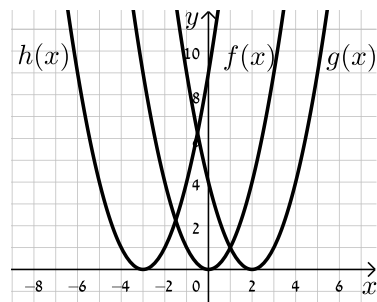
(36) א.  $\frac{\pi}{4}$  יחידות.    ב.  $k = \sqrt{2}$

**סרטוטים מרוכזים לפי מספרי שאלות:**

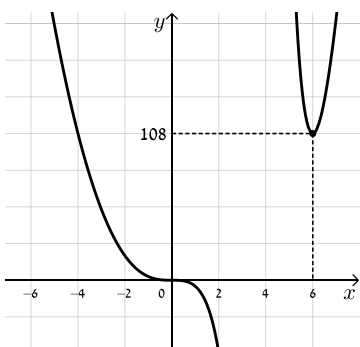
(34) סעיף ה



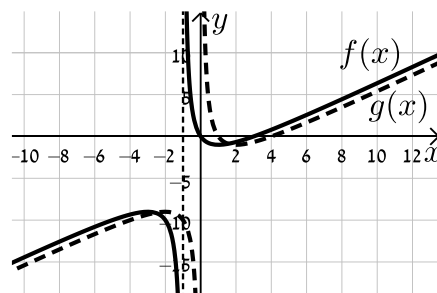
(30)

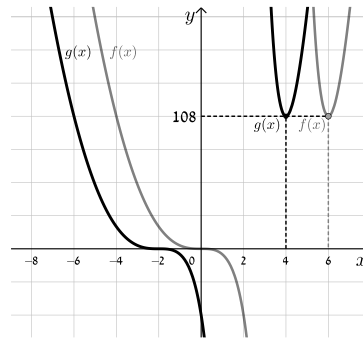


(35) סעיף א. iv.



(34) סעיף ו. ii.



**(35) סעיף ב**

## היפוך גרף פונקציה ביחס לציר y:

שאלות:

**46** סרטט במערכת צירים אחת את הפונקציות:  $f(x) = (x-2)^2$  ו-  $g(x) = f(-x)$  והראה כי ציר ה-  $y$  מהווה את ציר הסימטריה בין הגרפים.

**47** שקף כל אחת מהפונקציות הבאות וכתוב ביטוי מפושט לכל אחת מהן:

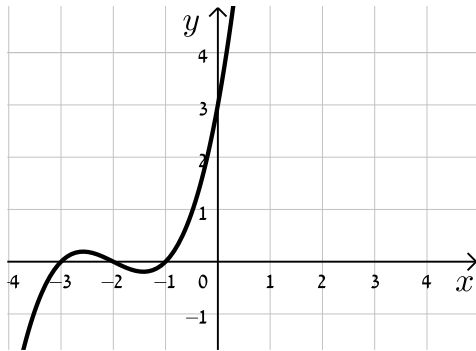
א.  $f(x) = x^3 + 2x - 1$ .

ב.  $f(x) = \frac{x}{x+3}$ .

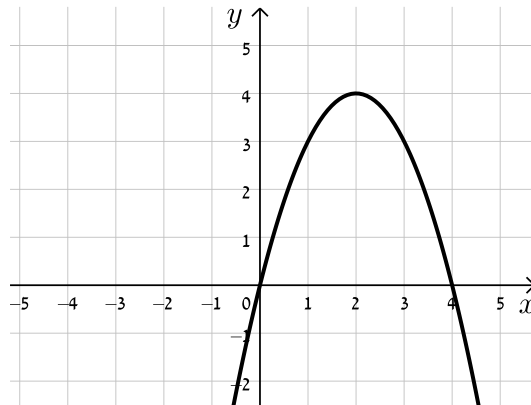
ג.  $f(x) = \sqrt{4x - x^2}$ .

**48** לפניך סרטטים של פונקציות שונות. הוסף לכל מערכת צירים גרף משוקף ביחס לציר ה-  $y$ .

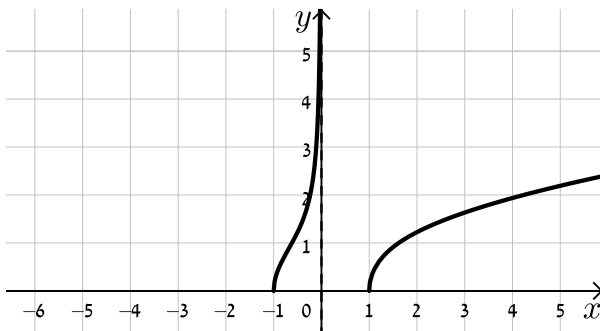
ב.



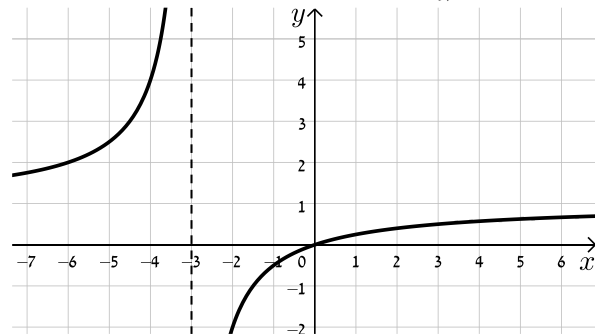
א.



ד.



ג.



**(49)** נתונה הפונקציה:  $f(x) = x^4 - 3x^3 + 2x^2$ .

- א. מצא את נקודות החיתוך של גרף הפונקציה  $f(x)$  עם ציר ה- $x$ .
- ב. שקף את הפונקציה וכתוב ביטוי מפורט של הפונקציה המתקבלת.
- ג. הראה כי נקודות החיתוך עם ציר ה- $x$  של הגרפים של הפונקציות  $f(x)$  ושל הפונקציה המשוקפת שלה הם מספרים נגדיים.

**(50)** נתונה הפונקציה:  $f(x) = \sqrt{10x - x^2}$ .

- א. סרטט במערכת צירים אחת את הגרפים של הפונקציות  $f(x)$  ו- $g(x) = f(-x)$ .
- ב. ו- $h(x) = -f(x)$  והסבר איזה ציר מהווה סימטריה בכל מקרה ביחס ל- $f(x)$ .

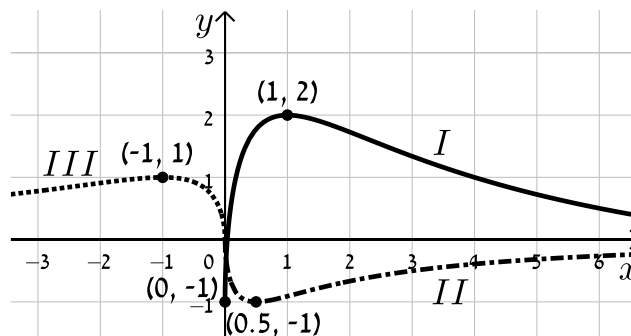
**(51)** הראה כי הפונקציה  $f(x) = x^4 + \sqrt{x^2 + 1}$  זהה לפונקציה  $g(x) = f(-x)$  והסבר מה ניתן לומר על הגרפים של הפונקציות הללו ועל הסימטריה שלהן זו לזו ביחס לציר ה- $y$ .

**(52)** נתונה הפונקציה:  $f(x) = \frac{18\sqrt{x}}{x^2 + 7x + 10}$ .

- א. מצא את תחום ההגדרה של הפונקציה.
- ב. מצא את נקודות הקיצון של הפונקציה ואת תחומי העלייה והירידה שלה.
- ג. הראה כי הפונקציה חותכת את הצירים רק בראשית הצירים וכי ציר ה- $x$  הוא האסימפטוטה האופקית שלה.
- ד. סרטט סקיצה של גרף הפונקציה.
- ה. לפניך מספר פונקציות:

- $g_1(x) = f(-x)$
- $g_2(x) = k \cdot f(x) + B$  כאשר:  $k > 1, B \neq 0$
- $g_3(x) = -f(ax)$  כאשר:  $a > 1$

באיור שלפניך מופיעים הגרפים של שלוש הפונקציות. התאם כל גרף לכל פונקציה ומצא את ערכי הפרמטרים  $a, k$  ו- $b$  על בסיס הנתונים המספריים. נמק.



**(53)** נתונה הפונקציה:  $f(x) = \frac{(x-a)^2}{(x-b)^3}$ ,  $a \cdot b < 0$ .

מגדירים פונקציה נוספת  $g(x)$  המקיימת:  $g(x) = f(ax)$ .

- א. בטא באמצעות  $a$  ו- $b$  את תחום ההגדרה של הפונקציה  $g(x)$ .
  - ב. מהן האסימפטוטות המאונכות לצירים של הפונקציה  $g(x)$ ?
  - ג. הוכח כי לפונקציה  $g(x)$  נקודת קיצון  $(x_0, y_0)$  המקיימת:  $x_0 > 3$ .
  - ד. נתון כי  $x_0 = 7$ . מצא את משוואת האסימפטוטה האנכית של הפונקציה (ללא פרמטרים).
  - ה. נתון כי  $y_0 = -\frac{4}{81}$ .
- i. מצא את ערכי הפרמטרים  $a$  ו- $b$ .
  - ii. סרטט במערכת צירים אחת את הגרפים של הפונקציות  $f(x)$  ו- $g(x)$ . היעזר בהגדרת הפונקציה  $g(x)$ .

**(54)** נתונה הפונקציה:  $f(x) = \frac{2x}{2\sqrt{x-2} - 2x + 1}$ .

- א. מה הוא תחום ההגדרה של  $f(x)$ ?
- ב. מצא את האסימפטוטות המקבילות לצירים של  $f(x)$ .
- ג. מצא את נקודת הקיצון של  $f(x)$  ורשום את תחומי העלייה והירידה שלה.
- ד. סרטט סקיצה של גרף הפונקציה  $f(x)$ .
- ה. מגדירים את הפונקציות:  $g(x) = f(ax)$  ו- $h(x) = f(x+a)$ ,  $a$  פרמטר. הנח  $a = 1.5$  וענה על הסעיפים הבאים:
  - i. האם לכל הגרפים אותו תחום הגדרה? נמק.
  - ii. האם לכל הגרפים אותו סוג קיצון? נמק.
  - iii. לאיזה מבין הגרפים של הפונקציות הנ"ל תהיה נקודת קיצון בעלת שיעור  $x$  הקטן ביותר ולאיזה תהיה נקודת קיצון בעלת שיעור  $x$  הגדול ביותר? נמק איכותית.

**תשובות סופיות:**

(46) סרטוט בסוף.

(47) א.  $f(-x) = -x^3 - 2x - 1$     ב.  $f(-x) = \frac{x}{x-3}$     ג.  $f(-x) = \sqrt{-4x - x^2}$

(48) סרטוט בסוף.

(49) א.  $(0,0), (1,0), (2,0)$     ב.  $f(-x) = x^4 + 3x^3 + 2x^2$     ג. הוכחה.

(50) סרטוט בסוף. ציר ה- $y$  מהווה את ציר הסימטריה בין  $f(x)$  ל- $g(x)$  וציר ה- $x$  מהווה את ציר הסימטריה בין  $f(x)$  ל- $h(x)$ .

(51) הפונקציות זהות. עבור שתיהן ציר ה- $y$  מהווה ציר סימטריה.

(52) א. תחום הגדרה:  $0 \leq x$     ב. נקודות קיצון:  $\max(1,1), \min(0,0)$  קצה,

עולה:  $0 < x < 1$ , יורדת:  $x > 1$     ג. הוכחה.    ד. סרטוט בסוף.

ה.  $g_1(x) \leftrightarrow III, g_2(x) \leftrightarrow I, g_3(x) \leftrightarrow II, a=2, B=-1, k=3$

(53) א. תחום ההגדרה:  $x \neq \frac{b}{a}$     ב. אסימפטוטות מאונכות:  $x = \frac{b}{a}, y = 0$

ג. הוכחה    ד.  $x = -2$     ה.  $a = -1, b = 2$     i.

ii. סרטוט בסוף.

(54) א.  $2 \leq x$     ב. אסימפטוטות מקבילות:  $y = -1$

ג. נקודות קיצון:  $\max(2, -1\frac{1}{3}), \min(3, -2)$ , תחום עלייה:  $3 < x$ ,

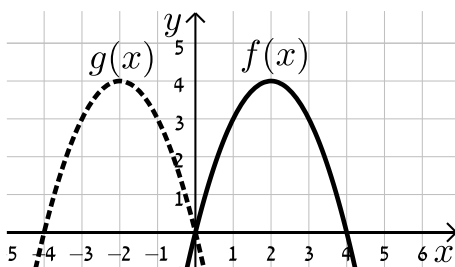
תחום ירידה:  $2 < x < 3$     ד. סרטוט בסוף.

ה. i. לא:  $h(x)x \geq \frac{1}{2}, g(x): x \geq 1\frac{1}{3}, f(x): x \geq 2$     ii. כן.

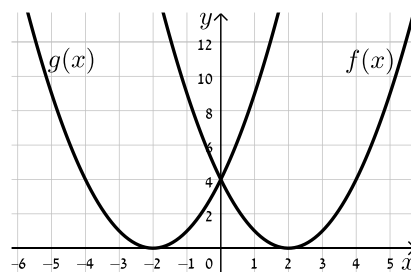
iii. ל- $f(x)$  השיעור הגבוה ביותר, ל- $h(x)$  השיעור הקטן ביותר.

**סרטוטים מרוכזים לפי מספרי שאלות:**

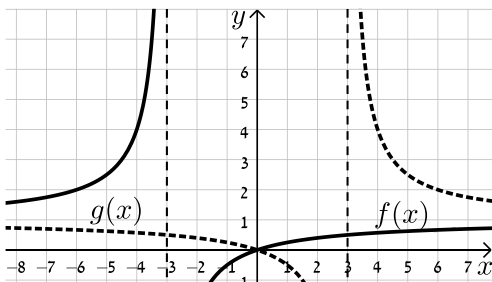
(48) סעיף א



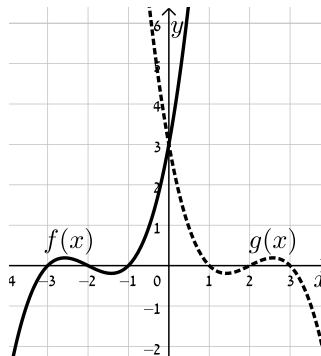
(46)



(48) סעיף ג

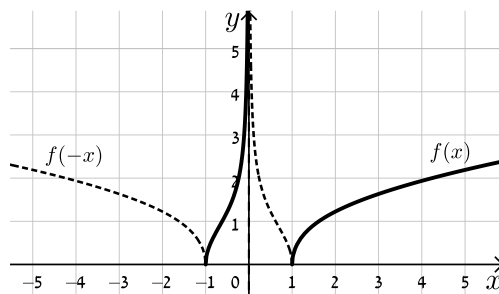
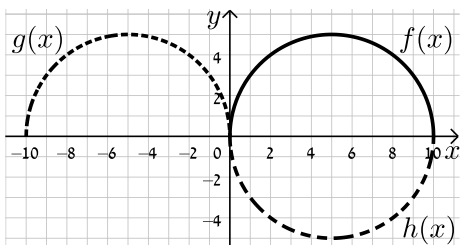


(48) סעיף ב



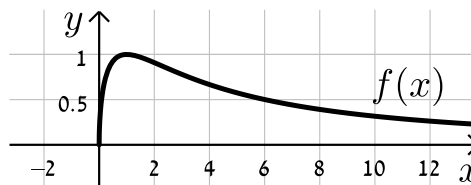
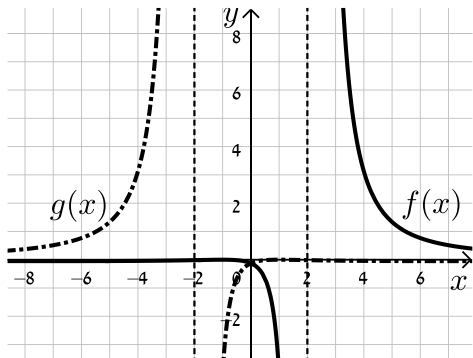
(50)

(49) סעיף ד

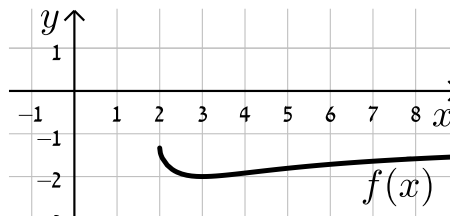


(53)

(52)



(54)



## הכפלת פונקציה בקבוע:

### שאלות:

19) סרטט במערכת צירים אחת את הגרפים של הפונקציות:

$$f(x) = x^2, \quad g(x) = 2x^2, \quad h(x) = 4x^2$$

20) סרטט במערכת צירים אחת את הגרפים של הפונקציות:

$$f(x) = x^2, \quad g(x) = \frac{1}{2}x^2, \quad h(x) = \frac{1}{4}x^2$$

21) סרטט במערכת צירים אחת את הגרפים של הפונקציות:

$$f(x) = x^2, \quad g(x) = -2x^2, \quad h(x) = -\frac{1}{2}x^2$$

22) נתונה הפונקציה הבאה:  $f(x) = 8 - x^3$

א. מגדירים פונקציה חדשה:  $g_1(x) = m \cdot f(x)$ ,  $m > 1$

סרטט במערכת צירים אחת את הגרפים של הפונקציות  $f(x)$  ו- $g_1(x)$ .

ב. מגדירים פונקציה חדשה:  $g_2(x) = m \cdot f(x)$ ,  $0 < m < 1$

סרטט במערכת צירים אחת את הגרפים של הפונקציות  $f(x)$  ו- $g_2(x)$ .

ג. נסמן ב-A את נקודת החיתוך של גרף הפונקציה  $f(x)$  עם ציר ה-y,

ב-B<sub>1</sub> את נקודת החיתוך של גרף הפונקציה  $g_1(x)$  עם ציר ה-y

וב-B<sub>2</sub> את נקודת החיתוך של גרף הפונקציה  $g_2(x)$  עם ציר ה-y.

i. מצא את ערך הפרמטר  $m$  עבור סעיף א' שמקיים:  $y_{B_1} - y_A = 24$ .

ii. מצא את ערך הפרמטר  $m$  עבור סעיף ב' שמקיים:  $y_A - y_{B_2} = 4$ .

23) נתונה הפונקציה הבאה:  $f(x) = \frac{1}{x^2 + 4x + 8}$

א. מהו תחום ההגדרה של הפונקציה?

ב. מצא את נקודת הקיצון של הפונקציה וקבע את סוגה.

ג. כתוב את תחומי העלייה והירידה של הפונקציה.

ד. מצא את נקודות החיתוך של  $f(x)$  עם הצירים.

ה. מצא את האסימפטוטות של הפונקציה המקבילות לצירים.

- ו. סרטט סקיצה של גרף הפונקציה.
- ז. מגדירים את הפונקציה:  $g(x) = 3 \cdot f(x)$ . ענה על השאלות הבאות:
- מהו תחום ההגדרה של  $g(x)$ ?
  - מהן נקודות הקיצון של  $g(x)$ ?
  - מהם תחומי העלייה והירידה של  $g(x)$ ?
  - מהם שיעורי נקודות החיתוך של  $g(x)$  עם הצירים?
  - מהם האסימפטוטות המקבילות לצירים של  $g(x)$ ?
- ח. סרטט על אותה מערכת הצירים את גרף הפונקציה  $g(x)$  לצד  $f(x)$ .

**(24)** נתונה הפונקציה הבאה:  $f(x) = \frac{1}{x^2 + 4x + 8}$

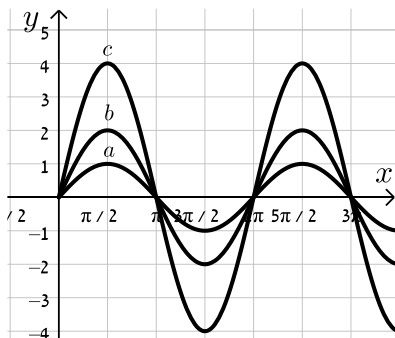
- מהו תחום ההגדרה של הפונקציה?
  - מצא את נקודת הקיצון של הפונקציה וקבע את סוגה.
  - כתוב את תחומי העלייה והירידה של הפונקציה.
  - מצא את נקודות החיתוך של  $f(x)$  עם הצירים.
  - מצא את האסימפטוטות של הפונקציה המקבילות לצירים.
- ו. סרטט סקיצה של גרף הפונקציה.
- ז. מגדירים את הפונקציה:  $g(x) = -2 \cdot f(x)$ . ענה על השאלות הבאות:
- מהו תחום ההגדרה של  $g(x)$ ?
  - מהן נקודות הקיצון של  $g(x)$ ?
  - מהם תחומי העלייה והירידה של  $g(x)$ ?
  - מהם שיעורי נקודות החיתוך של  $g(x)$  עם הצירים?
  - מהם האסימפטוטות המקבילות לצירים של  $g(x)$ ?
- ח. סרטט על אותה מערכת הצירים את גרף הפונקציה  $g(x)$  לצד  $f(x)$ .

**(25)** נתונה הפונקציה:  $f(x) = \frac{x}{x^2 + a}$ ,  $a \neq 0$

- ידוע כי לגרף הפונקציה יש נקודת קיצון עבור  $x = 1$ .
- מצא את  $a$  וכתוב את הפונקציה  $f(x)$  ואת תחום הגדרתה.
  - האם יש ל- $f(x)$  נקודות קיצון נוספות? אם כן מצא אותן וקבע את סוגן.
  - כתוב את תחומי העלייה והירידה של גרף הפונקציה  $f(x)$ .
  - מהן האסימפטוטות המקבילות לצירים של  $f(x)$ ?

- ה. סרטט סקיצה של גרף הפונקציה של  $f(x)$ .
- ו. מגדירים את הפונקציה  $g(x) = k \cdot f(x)$ .
- ידוע כי ל- $g(x)$  יש נקודת קיצון  $(1,1)$ .
- מצא את  $k$  ואת נקודת הקיצון השנייה של הפונקציה  $g(x)$ .
- ז. מוסיפים קבוע  $B$  לפונקציה  $g(x)$  כך שמתקבלת הפונקציה  $h(x) = g(x) + B$  ובה אחת מנקודות הקיצון נמצאת על ציר ה- $x$ .
- מצא את כל הערכים האפשריים עבור הקבוע  $B$ .
- 26** נתונה הפונקציה:  $f(x) = 4x^3 - x$  ומגדירים גם את הפונקציה:  $g(x) = -f(x)$ .
- א. מצא את נקודות הקיצון ונקודות החיתוך עם הצירים של הפונקציה  $f(x)$ .
- ב. סרטט סקיצה של גרף הפונקציה  $f(x)$ .
- ג. התייחס לפונקציות  $f(x)$  ו- $g(x)$  וענה על השאלות הבאות:
- הוכח כי לשתי הפונקציות אותן נקודות חיתוך עם ציר ה- $x$ .
  - מה הקשר בין נקודת החיתוך עם ציר ה- $y$  של כל פונקציה?
  - מה הקשר בין נקודות הקיצון של כל פונקציה?
  - האם, ואם כן – כיצד, משתנים תחומי העלייה והירידה של  $g(x)$  ביחס ל- $f(x)$ ? נמק.

- 27** נתונה הפונקציה הבאה:  $f(x) = k \cdot \frac{x-1}{x^2+3}$ ,  $k > 0$ .
- ידוע כי הנקודה הגבוהה ביותר על גרף הפונקציה מקיימת:  $y = 1$ .
- א. מצא את  $k$  וכתוב את הפונקציה  $f(x)$ .
- ב. חקור את הפונקציה לפי: תחום הגדרה, נקודות קיצון וסוגן, תחומי עלייה וירידה, נקודות חיתוך עם הצירים, אסימפטוטות המקבילות לצירים.
- ג. סרטט סקיצה של גרף הפונקציה.
- ד. הוסף באותו הסרטוט סקיצה של הפונקציה:  $g(x) = -f(x)$ .



- 28** נתונה הפונקציה:  $f(x) = k \sin x$ .
- באיור שלפניך 3 גרפים שונים.
- קבע מה צריך להיות ערכו של הפרמטר  $k$  עבורו כל גרף יתאים לפונקציה  $f(x)$ :

**(29)** מהפונקציה  $f(x) = \cos x$  בונים פונקציה חדשה  $g(x)$  המתקבלת ע"י הכפלת

הפונקציה המקורית פי 3 והזזתה כלפי מעלה ב-2 יחידות.

א. סרטט סקיצה של הפונקציה  $g(x)$ .

ב. בהנחה וסדר הפעולות של יצירת הפונקציה  $g(x)$  היה הפוך, כלומר תחילה

היינו מזיזים את הפונקציה המקורית כלפי מעלה ב-2 יחידות ורק לאחר מכן

הפונקציה הייתה מוכפלת פי 3, האם הפונקציה המתקבלת הייתה זהה לזו

שקיבלת בסעיף הקודם? נמק.

**תשובות סופיות:**

19) סרטוט בסוף.

20) סרטוט בסוף.

21) סרטוט בסוף.

22) א. סרטוט בסוף. ב. סרטוט בסוף. ג.  $m=4$ . ד.  $k = \frac{1}{2}$ .

23) א. תחום הגדרה: כל  $x$ . ב. נקודת קיצון:  $\max\left(-2, \frac{1}{4}\right)$ . ג. עולה:  $x < -2$ .

יורדת:  $x > -2$ . ד. נקודות חיתוך עם הצירים:  $\left(0, \frac{1}{8}\right)$ .

ה. אסימפטוטות:  $y=0$ . ו. סרטוט בסוף. ז. תחום הגדרה: כל  $x$ .

ii. נקודת קיצון:  $\min\left(-2, \frac{3}{4}\right)$ . iii. עולה:  $x < -2$ , יורדת:  $x > -2$ .

iv. נקודות חיתוך עם הצירים:  $\left(0, \frac{3}{8}\right)$ . v. אסימפטוטות:  $y=0$ .

ח. סרטוט בסוף.

24) א. תחום הגדרה: כל  $x$ . ב. נקודת קיצון:  $\max\left(-2, \frac{1}{4}\right)$ . ג. עולה:  $x < -2$ .

יורדת:  $x > -2$ . ד. נקודות חיתוך עם הצירים:  $\left(0, \frac{1}{8}\right)$ .

ה. אסימפטוטות:  $y=0$ . ו. סרטוט בסוף. ז. תחום הגדרה: כל  $x$ .

ii. נקודת קיצון:  $\min\left(-2, -\frac{1}{2}\right)$ . iii. עולה:  $x > -2$ , יורדת:  $x < -2$ .

iv. נקודות חיתוך עם הצירים:  $\left(0, -\frac{1}{4}\right)$ . v. אסימפטוטות:  $y=0$ .

ח. סרטוט בסוף.

25) א.  $f(x) = \frac{x}{x^2+1}$ ,  $a=1$ , תחום הגדרה: כל  $x$ .

ב. נקודות קיצון:  $\min\left(-1, -\frac{1}{2}\right), \max\left(1, \frac{1}{2}\right)$ .

ג. עולה:  $-1 < x < 1$ , יורדת:  $x < -1, x > 1$ . ד. אסימפטוטות:  $y=0$ .

ה. סרטוט בסוף. ו.  $k=2$ ,  $\min(-1, -1)$ . ז.  $B = \pm 1$ .

26) א. נקודות קיצון:  $\min\left(\frac{1}{\sqrt{12}}, -0.192\right), \max\left(-\frac{1}{\sqrt{12}}, 0.192\right)$ , נקודות חיתוך עם

הצירים:  $(0,0), \left(\frac{1}{2}, 0\right), \left(-\frac{1}{2}, 0\right)$ . ב. סרטוט בסוף.

ג. i. הוכחה. ii. זו אותה נקודה.

iii. שיעורי ה- $x$  של נקודות הקיצון זהים, אך שיעורי ה- $y$  הפוכים בסימנם וסוג

הקיצון הפוך. iv. כל תחומי העלייה והירידה מתהפכים.

$$(27) \text{ א. } f(x) = \frac{6(x-1)}{x^2+3}, k=6$$

ב. תחום הגדרה: כל  $x$ , נקודות קיצון:  $\max(3,1)$ ,  $\min(-1,-3)$ , עולה:  $-1 < x < 3$ ,

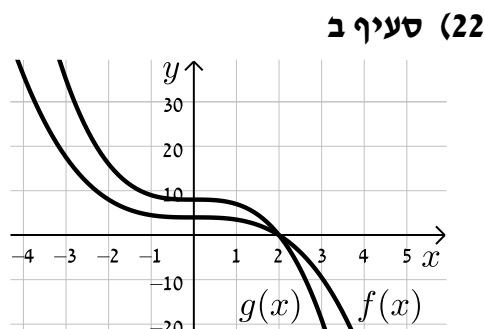
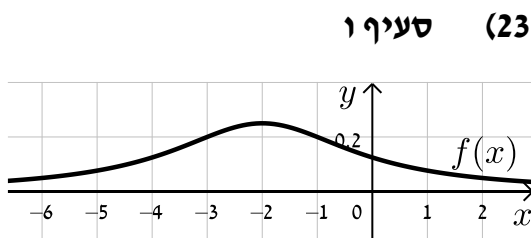
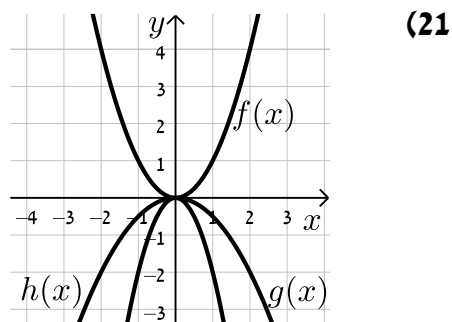
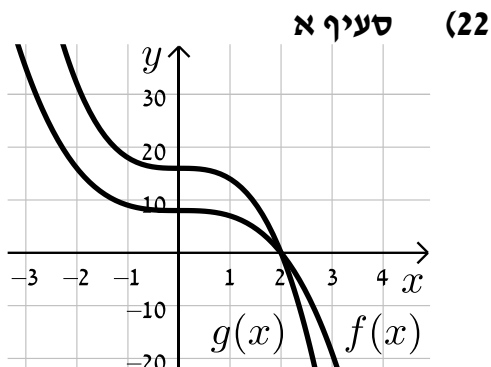
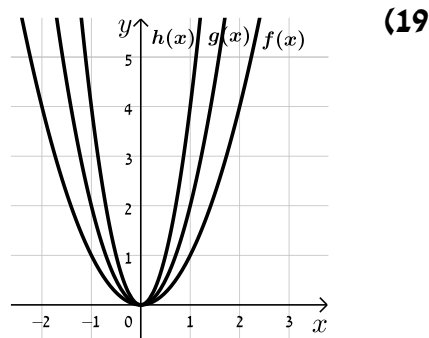
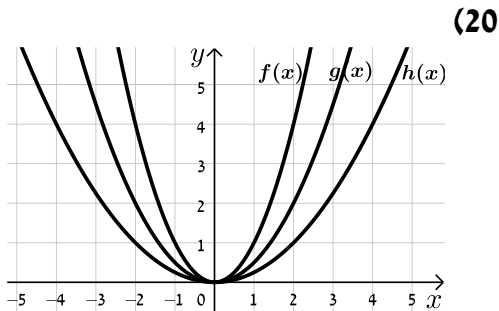
יורדת:  $x < -1$ ,  $x > 3$ , נקודות חיתוך עם הצירים:  $(0,-2)$ ,  $(1,0)$ , אסימפטוטות:  $y=0$ .

ג. סרטוט בסוף. ד. סרטוט בסוף.

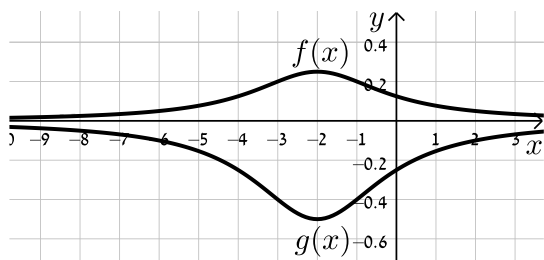
(28)  $a:k=1$ ,  $b:k=2$ ,  $c:k=4$

(29) א. סרטוט בסוף. ב. לא הייתה מתקבלת אותה הפונקציה.

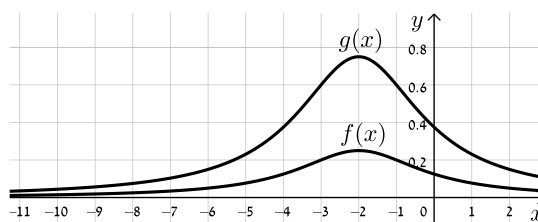
**סרטטים מרוכזים לפי מספרי שאלות:**



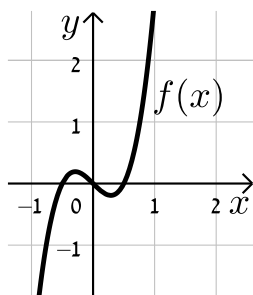
סעיף ח (24)



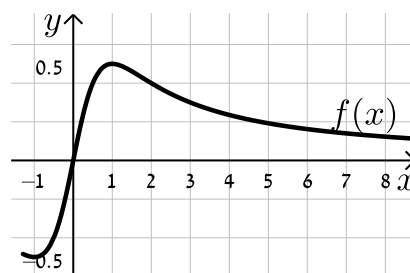
סעיף ח (23)



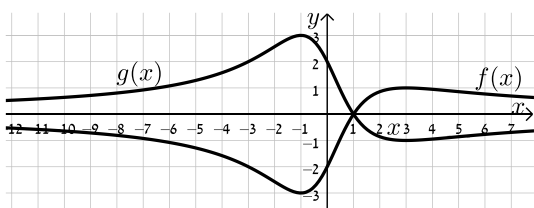
(26)



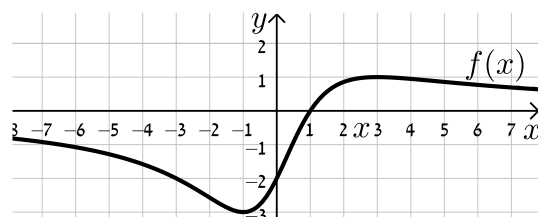
(25)



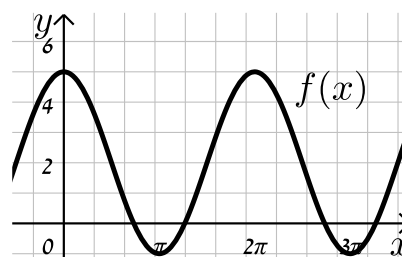
סעיף ד (27)



סעיף ג (27)



(29)



## מתיחה וכיווץ של פונקציה:

---

### שאלות:

**37** נתונה הפונקציה:  $f(x) = x^2$ . כתוב באופן מפורש וסרטט במערכת צירים אחת את

$$. h(x) = f\left(\frac{x}{2}\right), g(x) = f(2x) \text{ : הפונקציות הבאות}$$

**38** נתונה הפונקציה:  $f(x) = 6x - 2x^2$ . כתוב באופן מפורש וסרטט במערכת צירים אחת

$$. h(x) = f\left(\frac{x}{4}\right), g(x) = f(2x) \text{ : את הפונקציות הבאות}$$

**39** נתונה הפונקציה:  $f(x) = 12x - 3x^3$ . רוצים לכווץ את הפונקציה כך שנקודת החיתוך החיובית שלה עם ציר ה- $x$  תקטן פי 4. כתוב פונקציה ממושטת המתארת את הכיווץ הנ"ל.

**40** הפונקציה:  $f(x) = \frac{x^4 - 8x}{16}$  חותכת את ציר ה- $x$  בחלקו החיובי בנקודה A.

מצא כיווץ של הפונקציה כך ששיעורי הנקודה A יהיו  $(1,0)$ .

**41** נתונה הפונקציה:  $f(x) = 6x - x^2$ . רוצים לכווץ אותה פי  $k$  כך שנקודת החיתוך שלה

עם ציר ה- $x$  שאינה ראשית הצירים תקטן פי 3. נסמן את הפונקציה המכווצת ב- $g$ .

א. מצא את ערכו של הפרמטר  $k$ .

ב. כתוב את הפונקציה המכווצת  $g(x)$  בצורה מפורשת.

ג. סרטט את הפונקציות  $f(x)$  ו- $g(x)$  באותה מערכת צירים.

ד. הראה כיצד משתנה נקודת הקיצון במקרה זה.

**(42)** גרף הפונקציה  $f(x) = \sqrt{ax - x^2}$ ,  $a \neq 0$  חותך את ציר ה- $x$  בנקודה A שאינה בראשית

הצירים, וגרף הפונקציה  $g(x) = f(4x)$  חותך את ציר ה- $x$  בנקודה B שאינה

בראשית הצירים. ידוע כי  $x_B = 3$ .

א. מצא את ערך הפרמטר  $a$  וחקור את הפונקציה  $f(x)$  לפי הסעיפים הבאים:

i. תחום הגדרה.

ii. נקודות קיצון (מקומיות ומוחלטות אם ישנן) וקביעת סוגן.

iii. תחומי עלייה וירידה.

iv. סרטוט סקיצה של גרף הפונקציה.

ב. היעזר בתוצאות הסעיף הקודם וסרטוט סקיצה של גרף הפונקציה  $g(x)$ .

נמק כל שלב בקביעותיך.

**(43)** מותחים את הפונקציה  $f(x) = \sqrt{4 - 3x - x^2}$  פי  $k$ ,  $k > 1$  כך שמתקבלת

הפונקציה  $g(x)$ . ידוע כי תחום ההגדרה של  $g(x)$  הוא:  $-16 \leq x \leq 4$ .

א. מצא את  $k$ .

ב. האם לגרפים של הפונקציות  $f(x)$  ו- $g(x)$  אותה נקודת קיצון מקומית?

אם כן – מהי? אם לא – נמק קביעותיך.

**(44)** נתונה הפונקציה:  $f(x) = \frac{3}{x^2 + 8x + 12}$  ומגדירים את:  $g(x) = f(x/4)$  ו- $h(x) = f(3x)$ .

א. חקור את  $f(x)$  לפי: תחום הגדרה, אסימפטוטות המקבילות לצירים, נקודות

חיתוך עם הצירים, נקודות קיצון וסוגן, תחומי עלייה וירידה.

ב. היעזר בסעיפים הקודמים וענה על השאלות הבאות:

i. מהו הקשר בין האסימפטוטות של הפונקציות  $g(x)$  ו- $h(x)$  לבין

האסימפטוטות של הפונקציה  $f(x)$ ?

ii. מהו הקשר בין נקודות הקיצון של הפונקציות  $g(x)$  ו- $h(x)$  לבין נקודות

הקיצון של הפונקציה  $f(x)$ ?

ג. סרטוט במערכת צירים אחת את הגרפים של  $f(x)$  ושל  $g(x)$  ו- $h(x)$ .

(45) נתונה הפונקציה:  $f(x) = \frac{1}{a \sin^2 x + 1}$ ,  $a > 0$ .

- א. מצא את ערך הפרמטר  $a$  אם ידוע כי לפונקציה ערך מינימלי של  $\frac{1}{5}$ .
- ב. הראה כי לפונקציה נקודות מקסימום המקיימות:  $x_{\max} = \pi k$ ,  $k$  שלם. וכי הערך המירבי של הפונקציה הוא 1.
- ג. מגדירים פונקציה:  $g(x) = B \cdot f(x/m)$  אשר מקיימת:
- i. נקודות המקסימום של הפונקציה מקיימות:  $x_{\max} = \frac{\pi}{2} k$ ,  $k$  שלם
  - ii. הערך המירבי של הפונקציה הוא 2.
- מצא את ערכי הפרמטרים  $m$  ו- $B$ .

**תשובות סופיות:**

(37)  $g(x) = 4x^2, h(x) = \frac{x^2}{4}$

(38)  $g(x) = 12x - 8x^2, h(x) = 1\frac{1}{2}x - \frac{x^2}{8}$

(39)  $f(4x) = 48 - 192x^3$

(40)  $f(2x) = x^4 - x$

(41) א.  $k = 3$  ב.  $g(x) = 18x - 9x^2$  ג. סרטוט בסוף

ד. ערך ה- $x$  של נקודת הקיצון מתכווץ פי 3 (במקום  $\max(3,9)$  הופך ל- $\max(1,9)$ ).

(42) א.  $a = 12$  i. תחום הגדרה:  $0 \leq x \leq 12$  ii. נקודת קיצון:  $\min(12,0)$

קצה,  $\max(6,6)$ ,  $\min(0,0)$  קצה, iii. עולה:  $0 < x < 6$ , יורדת:

iv. סרטוט בסוף ב. סרטוט בסוף  $6 < x < 12$

(43) א.  $k = 4$  ב. לגרפים אין את אותה נקודת קיצון. ערך ה- $x$  של נקודת

הקיצון של  $g(x)$  גדל פי 4 ביחס ל- $f(x)$  (מ- $x_{\max} = -1.5$  ל- $x_{\max} = -6$ ) עקב חלוקת ה- $x$  ב-4, כמו כל הנקודות בפונקציה (וערך ה- $y$  נותר ללא שינוי).

(44) א. תחום הגדרה:  $x \neq -2, -6, y = 0$ , נקודות חיתוך עם

הצירים:  $\left(0, \frac{1}{4}\right)$ , נקודת קיצון:  $\max\left(-4, -\frac{3}{4}\right)$ , עולה:  $-6 < x < -4$ ,  $x < -6$

יורדת:  $x > -2, -4 < x < -2$  ב. i. האסימפטוטה האופקית

נותרת ללא שינוי. האסימפטוטות האנכיות משתנות ב- $g(x)$  הן מוכפלות ב-4

וב- $h(x)$  הן מחולקות ב-3. ii. ערך ה- $x$  של נקודת הקיצון

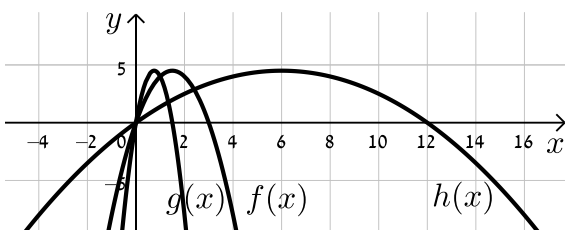
משתנה: ב- $g(x)$  הוא מוכפל ב-4 וב- $h(x)$  הוא מחולק ב-3. ערך ה- $y$  של נקודת

הקיצון נותר ללא שינוי וכך גם סוג הקיצון. ג. סרטוט בסוף.

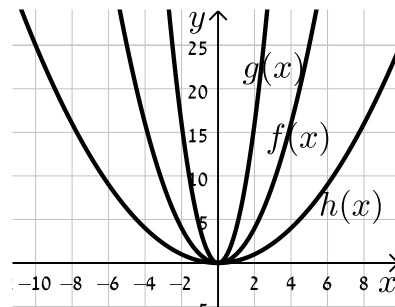
(45) א.  $a = 4$  ב. הוכחה. ג. i.  $(0,2)$  ii.  $m = \frac{1}{2}, B = 2$

**סרטוטים מרוכזים לפי מספרי שאלות:**

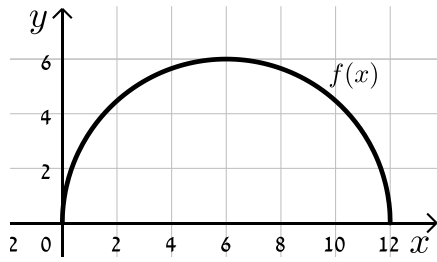
(38)



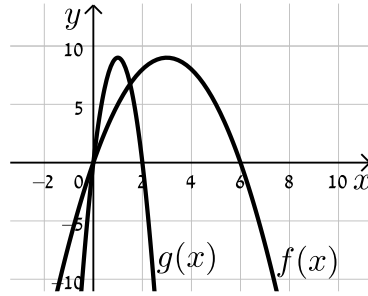
(37)



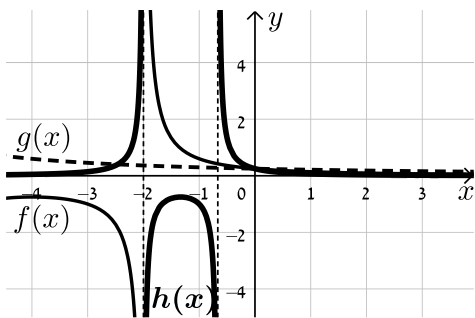
(42) סעיף א. iv.



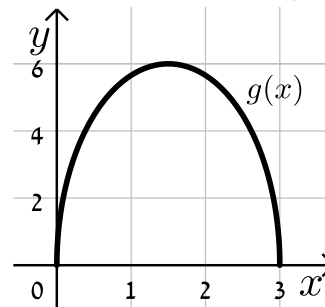
(41)



(44)



(42) סעיף ב.



## ערך מוחלט של פונקציה:

### שאלות:

55 נתונות הפונקציות:  $f(x) = x$  ו- $g(x) = |x|$ .

- מצא את נקודת החיתוך של הגרפים עם ציר ה- $x$ .
- סרטט את שני הגרפים במערכת צירים אחת והסבר מה ההבדל ביניהם.
- כיצד ישתנו הגרפים עבור:  $f(x) = x - 2$ ?
- כיצד ישתנו הגרפים עבור:  $f(x) = 3(x - 2)$ ?
- כיצד ישתנו הגרפים עבור:  $f(x) = 3x - 2$ ?

56 סרטט במערכת צירים אחת את זוגות הפונקציות הבאות:

א.  $f(x) = x^2 - 2x$  ו- $g(x) = |x^2 - 2x|$ .

ב.  $f(x) = x^3$  ו- $g(x) = |x^3|$ .

ג.  $f(x) = \frac{1}{x}$  ו- $g(x) = \left| \frac{1}{x} \right|$ .

57 סרטט את הגרפים של הפונקציות:  $f(x) = \tan x$  ו- $g(x) = |\tan x|$ .

58 נתונה הפונקציה:  $f(x) = \frac{1}{x}$  ועליה מבצעים את הפעולות הבאות:

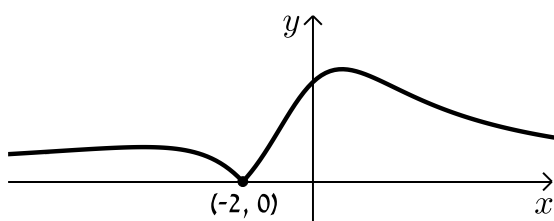
- מזיזים את הפונקציה  $f(x)$  ב-3 יחידות ימינה.
- מורידים 4 יחידות מערך הפונקציה.
- לוקחים את הערך המוחלט של הפונקציה.
- א. סרטט סקיצה של גרף הפונקציה המתקבלת.
- ב. האם תשתנה התוצאה אם נחליף בין שתי הפעולות הראשונות?

59 נתונה הפונקציה:  $f(x) = \frac{ax+2}{x^2+ax+6}$ ,  $a \neq 0$ .

באיור שלפניך מתואר גרף

הפונקציה  $g(x) = |f(x)|$ .

מצא את ערכו של הפרמטר  $a$ .



60 לפניך הפונקציה הבאה:  $f(x) = \frac{x-1}{\sqrt{x}}$ .

א. חקור את הפונקציה לפי הסעיפים הבאים:

i. תחום הגדרה.

ii. נקודות קיצון מקומיות וקצה (אם ישנן).

iii. תחומי עלייה וירידה.

iv. נקודות חיתוך עם הצירים (אם ישנן).

v. סרטט סקיצה של גרף הפונקציה.

ב. הוסף לאותה מערכת הצירים את הסקיצה של גרף הפונקציה:  $g(x) = |f(-x)|$ .

נמק את שיקוליך.

61 נתונה הפונקציה:  $f(x) = \frac{\cos x}{\sin x + 1}$  בתחום  $[-2\pi : 2\pi]$ .

א. הראה כי הפונקציה יורדת בכל תחום הגדרתה.

ב. מצא את נקודות החיתוך של גרף הפונקציה עם הצירים.

ג. נתון כי לפונקציה יש שתי אסימפטוטות אנכיות בתחום הנתון. מצא את משוואותיהן.

ד. סרטט סקיצה של גרף הפונקציה.

ה. קבע בכמה נקודות חותך הישר  $y = 1$  את גרף הפונקציה  $|f(x)|$  בתחום הנתון.

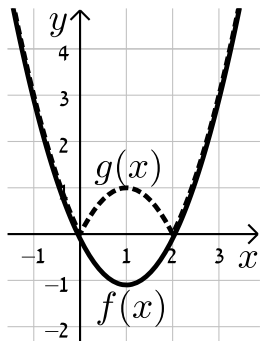
מצא את נקודות החיתוך.

**תשובות סופיות:**

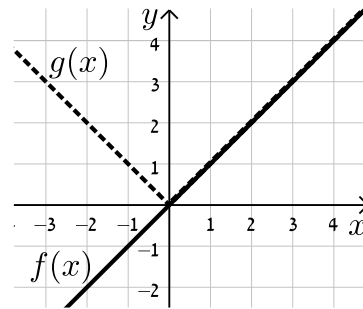
- (55) א.  $(0,0)$       ב. סרטוט בסוף.
- (56) א. סרטוט בסוף.      ב. סרטוט בסוף.      ג. סרטוט בסוף.
- (57) סרטוט בסוף.
- (58) א. סרטוט בסוף      ב. התוצאה לא תשתנה.
- (59)  $a=1$ .
- (60) א. i. תחום הגדרה:  $0 < x$       ii. נקודת קיצון: אין.
- iii. עולה:  $x > 0$       iv. נקודות חיתוך עם הצירים:  $(1,0)$
- v. סרטוט בסוף      ב. סרטוט בסוף.
- (61) א. הוכחה.      ב.  $(0,1)$ ,  $(\frac{\pi}{2}, 0)$ ,  $(-\frac{3\pi}{2}, 0)$       ג.  $x = \frac{3\pi}{2}$ ,  $-\frac{\pi}{2}$ .
- ד. סרטוט בסוף.      ה. 2 נקודות:  $(\pi, -1)$ ,  $(-\pi, -1)$ .

**סרטוטים מרוכזים לפי מספרי שאלות:**

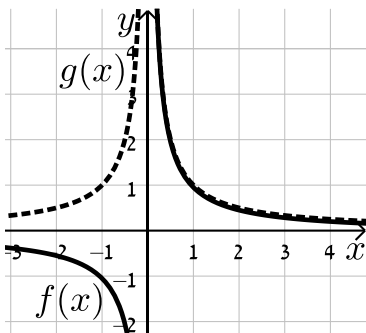
(56) סעיף א



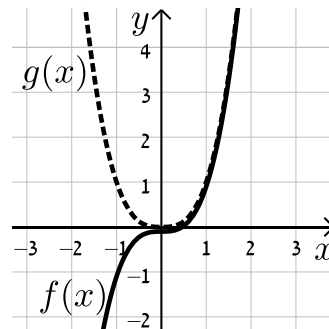
(55)



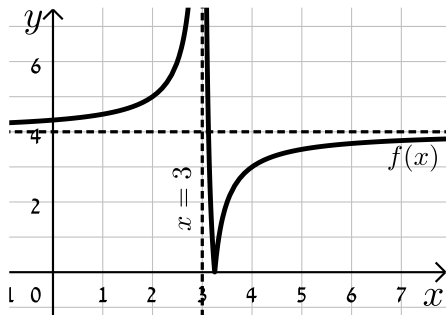
(56) סעיף ג



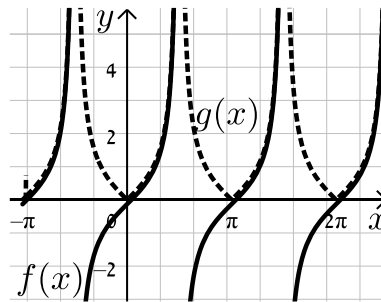
(56) סעיף ב



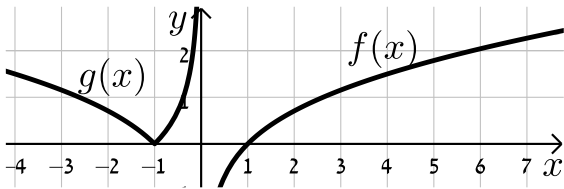
(58)



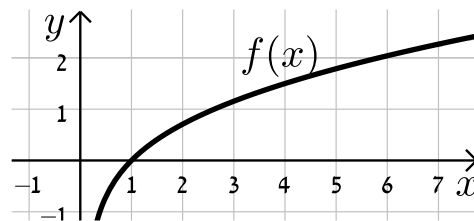
(57)



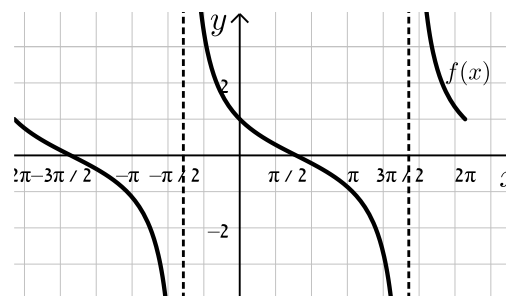
(60) סעיף ב



(60) סעיף א. v



(61)



## הקדמה כללית:

### סיכום כללי:

- הוספת קבוע לפונקציה :  
 בהינתן פונקציה  $y = f(x)$ , כל הנקודות שעל גרף הפונקציה :  $g(x) = f(x) + k$   
 מתקבלת ע"י הוספת קבוע  $k$  לערך ה- $y$ . במילים אחרות, אם נקודה  $(x_0, y_0)$  נמצאת  
 על גרף הפונקציה  $f(x)$  אז הנקודה  $(x_0, y_0 + k)$  תמצא על גרף הפונקציה  $g(x)$ .  
 הוספת קבוע מעלה ומורידה את גרף הפונקציה  $f(x)$  ב- $k$  יחידות.
- הכפלת פונקציה בקבוע :  
 בהינתן פונקציה  $y = f(x)$  ועליה נקודה כללית  $(x_0, y_0)$ , הפונקציה  $g(x) = k \cdot f(x)$   
 מתקבלת ע"י הכפלת  $f(x)$  בקבוע  $k$  ( $k \neq 0$ ). נקודה על  $g(x)$  תהיה  
 מהצורה :  $(x_0, k \cdot y_0)$ . הכפלת פונקציה בקבוע חיובי מותחת ומכווצת את גרף  
 הפונקציה בצורה אנכית. הכפלת פונקציה בקבוע שלילי מותחת ומכווצת את גרף  
 הפונקציה בצורה אנכית והופכת אותו ביחס לציר ה- $x$ .
- הזזת פונקציה ימינה ושמאלה :  
 כדי להזיז פונקציה  $y = f(x)$ ,  $k$  יחידות ימינה נציב :  $g(x) = f(x - k)$   
 וכדי להזיז אותה שמאלה ב- $k$  יחידות נציב :  $g(x) = f(x + k)$ .
- מתיחה וכיווץ אופקיים של פונקציה :  
 כדי לכווץ פונקציה כלשהי  $y = f(x)$  פי  $k$  (מניחים  $k > 1$ ) נציב :  $g(x) = f(k \cdot x)$ .  
 כדי להרחיב פונקציה כלשהי  $y = f(x)$  פי  $k$  (מניחים  $k > 1$ ) נציב :  $g(x) = f(x/k)$ .
- שיקוף גרף פונקציה ביחס לציר  $y$  :  
 כדי לשקף את גרף הפונקציה  $y = f(x)$  סביב ציר ה- $y$  נכפיל את ערך ה- $x$  פי -1.  
 הגרפים של הפונקציות  $y_1 = f(x)$  ו- $y_2 = f(-x)$  מהווים שיקוף זה לזה ביחס  
 לציר ה- $y$ .

- ערך מוחלט של פונקציה :  
 הערך המוחלט של :  $y = f(x)$  , מתקבל ע"י לקיחת ערכי ה-  $y$  בגודלם בלבד.  
 במילים אחרות, הערך המוחלט של  $f(x)$  הוא :  $y = |f(x)|$  . הגרפים של  
 הפונקציות  $f(x)$  ו-  $|f(x)|$  זהים לחלוטין בערכם החיובי (ז"א בחלקם שמעל לציר  
 ה-  $x$ ) וסימטריים לחלוטין בערכם השלילי ביחס לציר ה-  $x$  כאשר הגרף של  $f(x)$   
 נמצא מתחת לציר ה-  $x$  והגרף של  $|f(x)|$  נמצא מעל לציר ה-  $x$  .