

מכינה במתמטיקה להנדסת מכונות



תוכן העניינים

1	מבוא לאלגברה
47	מבוא לתורת הקבוצות
57	משוואות אלגבריות
79	אי שוויונים אלגבריים
95	חקירת משוואה ממעלה ראשונה
107	חקירת משוואה ממעלה שנייה
121	נוסחאות וייטה
123	חוקי החזקות והשורשים
133	משוואות ואי-שוויונים מעריכיים
143	חוקי הלוגריתמים, משוואות ואי-שוויונים לוגריתמים
159	סדרות
183	סימן הסכימה (סיגמה)
186	אינדוקציה מתמטית
198	הבינום של ניוטון
202	קומבינטוריקה
243	כלל ההכלה וההפרדה
248	מבוא לגאומטריה של המישור
256	גיאומטריה אוקלידית - משולשים
277	גיאומטריה אוקלידית - מרובעים
301	גיאומטריה אוקלידית - שטחים והיקפים
315	גיאומטריה אוקלידית - המעגל
340	טריגונומטריה במשולש ישר זווית
345	זהויות טריגונומטריות

תוכן העניינים

366	24. משוואות טריגונומטריות
387	25. טריגונומטריה במישור
420	26. גיאומטריה אנליטית - נקודה וישר
445	27. גיאומטריה אנליטית - המעגל
464	28. וקטורים גיאומטריים
478	29. וקטורים אלגבריים
520	30. חשבון דיפרנציאלי - פונקציה ממשית
524	31. חשבון דיפרנציאלי - נגזרות ומשיקים
539	32. חשבון דיפרנציאלי - חקירת פונקצית פולינום
552	33. חשבון דיפרנציאלי - חקירת פונקצית מנה ושורש
(ללא ספר)	34. חשבון דיפרנציאלי - הקשר שבין גרף הפונקציה וגרף הנגזרת
586	35. חשבון דיפרנציאלי - חקירת פונקציות טריגונומטריות
604	36. חשבון דיפרנציאלי - הזזות ומתיחות של פונקציות
639	37. חשבון דיפרנציאלי - פונקציות מעריכיות
655	38. חשבון דיפרנציאלי - פונקציות לוגריתמיות
671	39. חשבון אינטגרלי - האינטגרל הכללי
678	40. חשבון אינטגרלי - האינטגרל המסוים וחישובי שטחים
700	41. חשבון אינטגרלי - פונקציה מעריכית, לוגריתמית וחזקה

מכינה במתמטיקה להנדסת מכונות

פרק 1 - מבוא לאלגברה

תוכן העניינים

1	1. מספרים מכוונים
5	2. חזקות ושורשים עם מספרים מכוונים
7	3. סדר פעולות חשבון עם מספרים מכוונים
8	4. שברים פשוטים, עשרוניים ואחוזים
14	5. כפל וחילוק שברים
16	6. חיבור וחסור שברים
20	7. בעיות יסודיות באחוזים
22	8. חזרה על תבניות מספר
24	9. כינוס איברים
26	10. פישוט ביטויים על ידי פתיחת סוגריים
28	11. פישוט ביטויים באמצעות נוסחאות הכפל המקוצר
30	12. פירוק לגורמים של ביטויים אלגברים
33	13. פירוק הטרינום
35	14. שברים אלגברים
39	15. כפל וחילוק של שברים אלגברים
41	16. חיבור וחסור של שברים אלגברים
45	17. שברים כפולים

מספרים מכוונים:

סיכום כללי:

מספרים מכוונים הם מספרים שיכולים לקבל סימן חיובי או שלילי, כגון:

- בקניון גדול ישנן קומות 1, 2, 3, 4, וכן חניונים הממוקמים בקומות 1-, 2-, ו-3-.
- גובה פני הים מוגדר להיות 0 מטרים. העיר חיפה נמצאת כ-103 מטרים מעל פני הים בעוד שים המלח נמצא בגובה 426- מטרים.

כללים:

- כאשר מחברים שני מספרים בעלי סימנים זהים, מחברים את המספרים עצמם והסימן נשאר.
- כאשר מחברים שני מספרים בעלי סימנים מנוגדים, מחסירים את המספרים זה מזה (הקטן מהגדול) וסימן התוצאה כסימן המספר הגדול מביניהם.
- כפל וחילוק יתבצע בשני חלקים:
 - ביצוע הפעולה על המספרים עצמם.
 - קביעת הסימן של התוצאה באופן הבא:
 - כפל או חילוק של שני מספרים בעלי אותו סימן - התוצאה תהיה חיובית.
 - כפל או חילוק של שני מספרים שונים סימן - התוצאה תהיה שלילית.

הערה:

אם יש רצף של מכפלות (או חילוקים), סימן התוצאה תלוי במספר הפעמים שבהם מופיע סימן שלילי (-). אם הסימן מופיע מספר זוגי של פעמים התוצאה חיובית, ואם הוא מופיע מספר אי-זוגי של פעמים אזי התוצאה שלילית.

שאלות:

(1) סמנו את המספרים הבאים על ציר המספרים בהתאמה:

$$-3\frac{1}{2}, 4, 1\frac{1}{3}, -5, -\frac{1}{2}, 2, 0, \frac{1}{2}, -2$$



(2) חשבו את ערכי הביטויים הבאים:

ב. $-3-2$

א. $3+2$

ד. $-3+2$

ג. $3-2$

ו. $7+10$

ה. $-1-4$

ח. $-7+3$

ז. $-6+5$

(3) חשבו את ערכי הביטויים הבאים:

ב. $5-8-12+17$

א. $5+7-23+1$

ד. $-4-11+2+9$

ג. $3-14+2+6$

ו. $-7-13+5-3$

ה. $6-21+3-7$

(4) חשב את ערכי הביטויים הבאים:

ב. $4 \cdot (-7)$

א. $4 \cdot 9$

ד. $(-5) \cdot (-3)$

ג. $(-6) \cdot (-5)$

ו. $(-8) \cdot 5$

ה. $(-2) \cdot 8$

ח. $2 \cdot 3 \cdot 3$

ז. $(-2) \cdot (-3) \cdot (-3)$

י. $(-2) \cdot (-3) \cdot 3$

ט. $(-2) \cdot 3 \cdot (-3)$

יב. $(-2) \cdot (-3) \cdot (-3) \cdot (-2)$

יא. $2 \cdot 3 \cdot (-3)$

יד. $1 \cdot (-2) \cdot (-4) \cdot 2$

יג. $(-1) \cdot (-2) \cdot (-4) \cdot 2$

5) מהו הסימן של תוצאת המכפלה בכל מקרה :

א. $(-2) \cdot (-4) \cdot (-3) \cdot (-10) \cdot (-6) \cdot (-5)$

ב. $(-1) \cdot 2 \cdot 4 \cdot (-3) \cdot (-10) \cdot 6 \cdot (-5)$

ג. $(-1) \cdot 2 \cdot 4 \cdot (-3) \cdot (-10) \cdot (-6) \cdot (-5)$

ד. $(-1) \cdot 2 \cdot 4 \cdot (-3) \cdot (-10) \cdot 6 \cdot 5$

6) חשבו את ערכי הביטויים הבאים :

ב. $(-30) : 3$

א. $(-25) : (-5)$

ד. $(-32) : (-4)$

ג. $40 : (-10)$

ו. $4 : (-16)$

ה. $(-6) : 18$

7) חשבו את ערכי הביטויים הבאים :

ב. $\frac{42}{-6}$

א. $\frac{-60}{12}$

ד. $\frac{-12}{-3}$

ג. $\frac{32}{-4}$

8) מה התוצאה של כל אחת מהפעולות הבאות :

ב. $(-2) \cdot 0$

א. $0 : 5$

ד. $6 : 0$

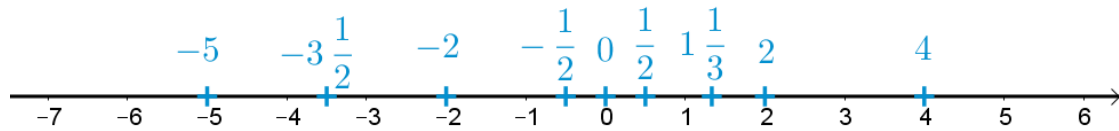
ג. $0 \cdot (-3) \cdot 4$

ו. $0 - 4$

ה. $0 + 4$

תשובות סופיות:

(1) להלן מערכת הצירים:



- (2) א. 5 ב. -5 ג. 1 ד. -1 ה. -5
- ו. 17 ז. -1 ח. -4
- (3) א. -10 ב. 2 ג. -3 ד. -4 ה. -19 ו. -18
- (4) א. 36 ב. -28 ג. 30 ד. 15 ה. -16
- ו. -40 ז. -18 ח. 18 ט. 18 י. 18
- יא. -18 יב. 36 יג. -16 יד. 16
- (5) א. + ב. + ג. - ד. -
- (6) א. 5 ב. -10 ג. -4 ד. 8 ה. $-\frac{1}{3}$ ו. $-\frac{1}{4}$
- (7) א. -5 ב. -7 ג. -8 ד. 4
- (8) א. 0 ב. 0 ג. 0 ד. לא מוגדר ה. 4 ו. -4

חזקות ושורשים עם מספרים מכוונים:

סיכום כללי:

הגדרה:

פעולת החזקה היא צורה מקוצרת שמייצגת פעולת כפל של אותו מספר בעצמו מספר פעמים. סימון החזקה הוא באופן הבא:

$$a^n = \underbrace{a \cdot a \cdot a \cdot \dots \cdot a}_n$$

כאשר a נקרא הבסיס ו- n נקראת החזקה.

הערות:

- כאשר הבסיס חיובי, התוצאה תמיד תהיה חיובית ללא קשר האם החזקה היא זוגית או אי-זוגית.
- כאשר הבסיס שלילי, התוצאה תהיה חיובית אם החזקה היא זוגית ושלילית אם החזקה היא אי-זוגית.

הגדרה:

פעולת השורש היא הפוכה לפעולת החזקה והיא מאפשרת למצוא את בסיס החזקה. סימון השורש הוא באופן הבא:

$$\sqrt[n]{a}$$

כאשר a נקרא הבסיס ו- n נקרא סדר השורש.

הערות:

- שורש למספר חיובי יכול להיות מסדר זוגי או אי-זוגי.
- שורש למספר שלילי יכול להיות מסדר אי-זוגי בלבד.

שאלות:

(1) חשב את ערכי הביטויים הבאים:

- | | |
|--------------|---------------|
| א. 3^2 | ב. 3^3 |
| ג. $(-3)^3$ | ד. $(-2)^3$ |
| ה. 4^3 | ו. 3^4 |
| ז. $(-5)^3$ | ח. 10^4 |
| ט. $-(-3)^4$ | י. -5^4 |
| יא. -4^3 | יב. $-(-2)^6$ |

(2) חשב את ערכי הביטויים הבאים:

- | | |
|--------------------|----------------------|
| א. $\sqrt[3]{-27}$ | ב. $\sqrt[4]{625}$ |
| ג. $\sqrt[4]{-16}$ | ד. $\sqrt[5]{-32}$ |
| ה. $-\sqrt[4]{81}$ | ו. $-\sqrt[3]{1000}$ |

תשובות סופיות:

- | | | | | | |
|---------|----------|-------------|---------|---------|---------|
| א. 9 | ב. 27 | ג. -27 | ד. -8 | ה. 64 | ו. 81 |
| ז. -125 | ח. 10000 | ט. -81 | י. -625 | יא. -64 | יב. -64 |
| א. -3 | ב. 5 | ג. לא מוגדר | ד. -2 | ה. -3 | ו. -10 |

סדר פעולות חשבון עם מספרים מכוונים:

סיכום כללי:

סדר פעולות חשבון:

- פעולות כפל וחילוק קודמות לפעולות חיבור וחסור.
- פעולות חזקה ושורש קודמות לפעולות כפל וחילוק.
- סוגריים קודמים לכל.

שאלות:

חשב את ערכי הביטויים הבאים:

$(-3)^2 : 9 - 2 \cdot (-4^2)$ (2)	$\sqrt{81} + 3 \cdot 2^3 - 40 : 8$ (1)
$3 + 4 \cdot [-3 + 4 \cdot (-2)] + \sqrt{10 + 6}$ (4)	$\sqrt{144} - 20 : 4 + 3 \cdot (-2)^2$ (3)
$-\sqrt{9} + 5^2 : (-4 - 1) - 24 : 12 \cdot 3$ (6)	$(-3)^4 : (-9) - 5 \cdot (-2)^3$ (5)
$\sqrt[3]{-27} + 4 \cdot 3^2 - 2 \cdot 3^3$ (8)	$-2^5 : (-8) + 4^2 - 3 \cdot 5$ (7)
$(8 - \sqrt[3]{64}) \cdot (2 \cdot (-4) - \sqrt[3]{243})$ (10)	$[6 \cdot (-1)^4 - 10 \cdot (-1)^3] \cdot (-1)^5$ (9)
	$\frac{3^2 \cdot (8 - 2 \cdot 3)^3}{(5^2 \cdot 3 - 72) \cdot (-4)} + 2 \cdot \{15 - 20 : (4 + 3 \cdot 2)\}$ (11)

תשובות סופיות:

-37 (4)	19 (3)	33 (2)	28 (1)
-21 (8)	5 (7)	-14 (6)	31 (5)
	20 (11)	-44 (10)	-16 (9)

שברים פשוטים, עשרוניים ואחוזים:

סיכום כללי:

הגדרה כללית:

השבר הוא חלק מתוך השלם. מקובל לסמן שבר באמצעות קו שבר המפריד בין המונה (החלק העליון) למכנה (החלק התחתון) באופן הבא:

$$\frac{\text{מונה}}{\text{מכנה}}$$

ישנם שלושה סוגים אפשריים של שברים:

- שבר פשוט – בו המונה קטן מהמכנה (ולכן תמיד יהיה קטן מ-1).
- שבר מדומה – בו המונה גדול מהמכנה (יהיה גדול בערכו מ-1).
- שבר מעורב – המכיל שילוב של מספר שלם ושבר כלשהו.

שבר עשרוני:

שבר שהמכנה שלו הוא מספר המהווה כפולות של 10 כגון: 10, 100, 1000 ... שבר עשרוני מיוצג ע"י נקודה עשרונית אשר מבדילה בין החלק שלם לחלק השברי באופן הבא:

$$\underbrace{XX}_{\text{שברים שלמים}}.\underbrace{YYY}$$

כדי להמיר שבר פשוט לשבר עשרוני המכנה צריך להיות בכפולות של 10.

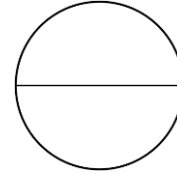
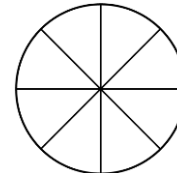
אחוזים - הגדרה:

השבר $\frac{1}{100}$ מוגדר להיות אחוז אחד ומסומן באופן הבא: 1%.

באופן זה השבר $\frac{45}{100}$ יכתב: 45%, והשבר $\frac{145}{100}$ יכתב: 145%.

שאלות:

(1) צבע את החלקים המתאימים בכל עיגול:

ב. צבע $\frac{1}{6}$ מהעיגולא. צבע $\frac{1}{2}$ מהעיגולד. צבע $\frac{2}{5}$ מהעיגולג. צבע $\frac{3}{8}$ מהעיגול

(2) כתוב את השבר המתאים לחלקים הצבועים בכל אחד מהמקרים הבאים:

ב. שבר:



א. שבר:



ד. שבר:



ג. שבר:



(3) הרחב את השברים הבאים:

א. השבר $\frac{1}{2}$ לפי בסיס 4, לפי בסיס 18, לפי בסיס 40.ב. השבר $\frac{3}{5}$ לפי בסיס 10, לפי בסיס 25, לפי בסיס 60.ג. השבר $\frac{5}{8}$ לפי בסיס 16, לפי בסיס 32, לפי בסיס 88.

(4) צמצם את השברים הבאים ככל הניתן :

א. $\frac{25}{30}$	ב. $\frac{10}{30}$	ג. $\frac{6}{24}$	ד. $\frac{4}{20}$
ה. $\frac{35}{56}$	ו. $\frac{24}{42}$	ז. $\frac{36}{48}$	ח. $\frac{33}{121}$

(5) המר את השברים המדומים הבאים לשברים מעורבים :

א. $-\frac{20}{3}$	ב. $\frac{19}{4}$	ג. $\frac{12}{5}$	ד. $\frac{22}{5}$
ה. $-\frac{34}{6}$	ו. $-\frac{50}{7}$	ז. $\frac{47}{8}$	ח. $\frac{60}{9}$

(6) המר את השברים המעורבים הבאים לשברים מדומים :

א. $1\frac{2}{3}$	ב. $3\frac{5}{6}$	ג. $4\frac{1}{2}$	ד. $6\frac{1}{4}$
ה. $11\frac{3}{4}$	ו. $-2\frac{5}{8}$	ז. $-6\frac{2}{7}$	ח. $12\frac{7}{9}$

(7) קבע איזה שבר גדול יותר בכל אחד מהמקרים הבאים :

א. $\frac{4}{10}$ או $\frac{3}{10}$	ב. $\frac{7}{6}$ או $\frac{7}{8}$
ג. $\frac{5}{6}$ או $\frac{2}{3}$	ד. $\frac{7}{12}$ או $\frac{5}{18}$

(8) המר את השברים העשרוניים הבאים לשברים פשוטים מצומצמים או מעורבים :

א. 0.7	ב. 0.07	ג. 0.007	ד. 0.34
ה. 0.304	ו. 0.65	ז. 1.2	ח. 1.02
ט. 1.42	י. 3.5	יא. 6.03	יב. 5.125

9) המר את השברים הבאים לשברים עשרוניים:

א. $\frac{3}{10}$	ב. $\frac{3}{100}$	ג. $\frac{3}{1000}$	ד. $\frac{23}{1000}$
ה. $\frac{1}{2}$	ו. $\frac{3}{4}$	ז. $\frac{2}{5}$	ח. $\frac{4}{25}$
ט. $\frac{7}{50}$	י. $\frac{3}{20}$	יא. $\frac{7}{8}$	יב. $\frac{9}{16}$
יג. $9\frac{1}{10}$	יד. $3\frac{1}{5}$	טו. $4\frac{7}{8}$	טז. $-4\frac{1}{16}$

10) כתוב את השברים הבאים בצורתם העשרונית (היעזר במחשבון וכתוב עד 3 ספרות אחרי הנקודה העשרונית):

א. $\frac{2}{3}$	ב. $\frac{5}{6}$	ג. $\frac{3}{7}$	ד. $\frac{2}{11}$
------------------	------------------	------------------	-------------------

11) המר מאחוזים לשברים פשוטים:

א. 25%	ב. 32%	ג. 64%	ד. 80%
ה. 120%	ו. 5%	ז. 300%	ח. 150%

12) המר משברים פשוטים לאחוזים:

א. $\frac{3}{4}$	ב. $\frac{1}{8}$	ג. $\frac{4}{5}$	ד. $\frac{7}{20}$
ה. $\frac{11}{40}$	ו. $\frac{70}{125}$	ז. $\frac{5}{6}$	ח. $\frac{4}{9}$

תשובות סופיות:

(1) תשובה מודגמת בסרטון.

- (2) א. $\frac{1}{5}$ ב. $\frac{1}{6}$ ג. $\frac{2}{3}$ ד. $\frac{3}{4}$
- (3) א. $\frac{4}{8}, \frac{18}{36}, \frac{40}{80}$ ב. $\frac{30}{50}, \frac{75}{125}, \frac{180}{300}$ ג. $\frac{80}{128}, \frac{160}{256}, \frac{440}{700}$
- (4) א. $\frac{5}{6}$ ב. $\frac{1}{3}$ ג. $\frac{1}{4}$ ד. $\frac{1}{5}$ ה. $\frac{5}{8}$ ו. $\frac{4}{7}$
- (5) א. $-6\frac{2}{3}$ ב. $4\frac{3}{4}$ ג. $2\frac{2}{5}$ ד. $4\frac{2}{5}$ ה. $-5\frac{4}{6}$ ו. $-7\frac{1}{7}$
- (6) א. $\frac{5}{3}$ ב. $\frac{23}{6}$ ג. $\frac{9}{2}$ ד. $\frac{25}{4}$ ה. $\frac{47}{4}$ ו. $-\frac{21}{8}$
- (7) א. $\frac{4}{10}$ ב. $\frac{7}{6}$ ג. $\frac{5}{6}$ ד. $\frac{7}{12}$
- (8) א. $\frac{7}{10}$ ב. $\frac{7}{100}$ ג. $\frac{7}{1000}$ ד. $\frac{17}{50}$ ה. $\frac{38}{125}$ ו. $\frac{13}{20}$
- (9) א. 0.3 ב. 0.03 ג. 0.003 ד. 0.023 ה. 0.5 ו. 0.75
- א. 0.4 ב. 0.16 ג. 0.14 ד. 0.15 ה. 0.875 ו. -4.0625
- א. $0.\bar{6}$ ב. $0.\bar{83}$ ג. 0.428 ד. $0.\bar{18}$ ה. 4.875 ו. 3.2
- (11) א. $\frac{1}{4}$ ב. $\frac{8}{25}$ ג. $\frac{16}{25}$ ד. $\frac{4}{5}$ ה. $1\frac{1}{5}$ ו. $\frac{1}{20}$
- א. 3 ב. $1\frac{1}{2}$ ח. $1\frac{1}{2}$ ט. $1\frac{1}{5}$ י. $1\frac{1}{5}$ יא. $6\frac{3}{100}$ יב. $5\frac{1}{8}$ יג. 9.1 יד. 3.2 יה. 0.5625 יז. 0.16 יח. 0.14 יט. 0.15

12) א. 75% ב. 12.5% ג. 80% ד. 35% ה. 27.5% ו. 56%

ז. 83.333% ח. 44.444%

כפל וחילוק שברים:

סיכום כללי:

- כשכופלים שני שברים יש לכפול מונה במונה ומכנה במכנה.
 - במידה ומדובר במספר שלם הכופל שבר, יש לכפול אותו במונה.
 - במידה ומדובר בשברים מעורבים, יש להפוך אותם תחילה לשברים מדומים ורק אז לבצע את פעולת הכפל.
- כדי לחלק שברים, יש לכפול את השבר הראשון בהופכי של השבר השני.
 - הופכי של שבר מסוים מתקבל ע"י החלפת המונה במכנה.

שאלות:

(1) חשב את ערכי הביטויים הבאים:

$\frac{2}{9} \cdot \frac{8}{10}$ ג.	$\frac{2}{7} \cdot \frac{5}{6}$ ב.	$\frac{3}{5} \cdot \frac{3}{4}$ א.
$\frac{12}{25} \cdot 5$ ו.	$6 \cdot \frac{2}{3}$ ה.	$3 \cdot \frac{4}{5}$ ד.
$3\frac{3}{7} \cdot 2\frac{2}{5}$ ט.	$3\frac{1}{2} \cdot 4\frac{2}{5}$ ח.	$1\frac{3}{5} \cdot 2\frac{1}{4}$ ז.
$\frac{4^3}{5}$ יב.	$\frac{4}{5^3}$ יא.	$\left(\frac{4}{5}\right)^3$ י.

(2) חשב את ערכי הביטויים הבאים:

$\frac{3}{25} : \frac{7}{10}$ ג.	$\frac{3}{4} : \frac{1}{2}$ ב.	$\frac{2}{5} : \frac{4}{9}$ א.
$\frac{5}{6} : 3$ ו.	$10 : \frac{2}{3}$ ה.	$8 : \frac{2}{9}$ ד.
$2\frac{2}{5} : 1\frac{3}{15}$ ט.	$3\frac{3}{4} : 5\frac{5}{8}$ ח.	$\frac{2}{5} : 5$ ז.

תשובות סופיות:

א. $\frac{9}{20}$	ב. $\frac{5}{21}$	ג. $\frac{8}{45}$	ד. $2\frac{2}{5}$	ה. 4	ו. $2\frac{2}{5}$
ז. $3\frac{3}{5}$	ח. $15\frac{2}{5}$	ט. $8\frac{8}{35}$	י. $\frac{64}{125}$	יא. $\frac{4}{125}$	יב. $12\frac{4}{5}$
א. $\frac{9}{10}$	ב. $1\frac{1}{2}$	ג. $\frac{6}{35}$	ד. 36	ה. 15	ו. $\frac{5}{18}$
ז. $\frac{2}{25}$	ח. $\frac{2}{3}$	ט. 2			

חיבור וחסור שברים:

סיכום כללי:

כפולה משותפת מינימלית:

בהינתן זוג מספרים a ו- b , המספר הקטן ביותר אשר תוצאת חלוקתו במספרים הנ"ל מניבה מספר שלם נקרא הכפולה המינימלית שלהם.

הערות:

- כפולה מינימלית יכולה להיות גם עבור יותר משני מספרים.
- הכפולה המינימלית תהיה המכנה המשותף בעת פעולות חיבור וחסור של שברים.

כללי החיבור והחסור של שברים:

- חיבור וחסור של שברים בעלי אותו המכנה מתבצע על המספרים שבמונה בלבד כאשר המכנה נשאר כפי שהוא.

$$\text{דוגמא: } \frac{2}{7} - \frac{3}{7} = \frac{2-3}{7} = \frac{-1}{7}, \quad \frac{2}{7} + \frac{3}{7} = \frac{2+3}{7} = \frac{5}{7}$$

- חיבור וחסור של שברים בעלי מכנים שונים מתבצע ע"י פעולת מכנה משותף.

$$\text{דוגמא: } \frac{1}{4} - \frac{5}{6} = \frac{3}{12} - \frac{10}{12} = \frac{3-10}{12} = -\frac{7}{12}, \quad \frac{2}{5} + \frac{1}{3} = \frac{6}{15} + \frac{5}{15} = \frac{6+5}{15} = \frac{11}{15}$$

- חיבור של שבר עם מספר שלם יתבצע באופן ישיר.

$$\text{דוגמא: } 3 + \frac{1}{4} = 3\frac{1}{4}$$

חסור של שבר ממספר שלם יתבצע ע"י הוצאת שלמים מהשבר.

$$\text{דוגמא: } 3 - \frac{1}{4} = 2\frac{4}{4} - \frac{1}{4} = 2\frac{3}{4}$$

דרך נוספת היא ע"י העברת המספר השלם לשבר מדומה: $3 - \frac{1}{4} = \frac{12}{4} - \frac{1}{4} = \frac{11}{4} = 2\frac{3}{4}$

- חיבור וחסור של שברים מעורבים יתבצע ע"י העברתם לשברים מדומים תחילה.

$$\text{דוגמא: } 3\frac{2}{5} + 2\frac{1}{6} = \frac{17}{5} + \frac{13}{6} = \frac{17 \cdot 6}{30} + \frac{13 \cdot 5}{30} = \frac{102 + 65}{30} = \frac{167}{30} = 5\frac{17}{30}$$

ניתן גם לפצל ולבצע את פעולת החיבור (או החיסור) של המספרים השלמים תחילה, ולאחר מכן לבצע את הפעולה עבור השברים.

$$\text{דוגמא: } 2\frac{3}{4} - 5\frac{1}{3} = (2 - 5) + \left(\frac{3}{4} - \frac{1}{3}\right) = -3 + \left(\frac{9}{12} - \frac{4}{12}\right) = -3 + \frac{5}{12} = -2\frac{7}{12}$$

שאלות:

- (1) מצא את הכפולה המשותפת המינימלית של המספרים הבאים:

א. 2 ו-3	ב. 2 ו-4	ג. 3 ו-5	ד. 6 ו-10
ה. 4 ו-10	ו. 4 ו-6	ז. 3, 5 ו-10	ח. 2, 3 ו-8

- (2) חשב את ערכי הביטויים הבאים:

א. $\frac{1}{5} + \frac{3}{5}$	ב. $\frac{5}{9} + \frac{2}{9}$
ג. $\frac{4}{13} + \frac{9}{13}$	ד. $\frac{7}{8} + \frac{7}{8}$
ה. $\frac{7}{8} - \frac{3}{8}$	ו. $\frac{8}{9} - \frac{7}{9}$
ז. $\frac{2}{12} - \frac{5}{12}$	ח. $\frac{2}{5} - \frac{6}{5}$
ט. $\frac{2}{8} + \frac{5}{8} + \frac{6}{8}$	י. $\frac{7}{15} + \frac{8}{15} - \frac{6}{15}$

(3) חשב את ערכי הביטויים הבאים:

א. $\frac{1}{2} + \frac{4}{3}$

ב. $\frac{3}{5} + \frac{1}{10}$

ג. $\frac{4}{6} - \frac{1}{12}$

ד. $\frac{3}{6} - \frac{5}{8}$

ה. $\frac{5}{4} + \frac{7}{2} + \frac{2}{8}$

ו. $\frac{7}{3} + \frac{6}{5} + \frac{3}{10}$

ז. $\frac{4}{7} - \frac{1}{6} + \frac{1}{2}$

ח. $\frac{1}{4} + \frac{2}{8} - \frac{3}{5}$

(4) חשב את ערכי הביטויים הבאים:

א. $2 + \frac{5}{6}$

ב. $2 - \frac{5}{6}$

ג. $2\frac{1}{4} + \frac{5}{6}$

ד. $2\frac{1}{4} - \frac{5}{6}$

ה. $3\frac{2}{3} + 4\frac{1}{4}$

ו. $5\frac{7}{8} - 6\frac{1}{2}$

ז. $2 + \frac{5}{6} - \frac{1}{9}$

ח. $\frac{3}{4} - 1\frac{1}{5} + \frac{8}{20}$

(5) חשב את ערכי הביטויים הבאים:

א. $\frac{1}{2} \cdot \left(1 - \frac{3}{4}\right) + 2\frac{1}{3}$

ב. $\frac{3}{14} : \frac{2}{7} + \frac{1}{3} \cdot 2\frac{1}{4} - \frac{2}{5}$

ג. $\frac{5}{11} \cdot 2\frac{3}{4} - 6 : \frac{2}{5}$

ד. $2\frac{4}{5} : \frac{9}{10} \cdot \frac{6}{7} + \frac{1}{6}$

ה. $\frac{5}{6} : \frac{3}{4} + \frac{2}{3} \cdot 3\frac{1}{4}$

תשובות סופיות:

12 .ג	20 .ה	30 .ד	15 .ג	4 .ב	6 .א (1
				24 .ח	30 .ז
$\frac{1}{9}$.ג	$\frac{1}{2}$.ה	$1\frac{3}{4}$.ד	1 .ג	$\frac{7}{9}$.ב	$\frac{4}{5}$.א (2
		$\frac{3}{5}$.י	$1\frac{5}{8}$.ט	$-\frac{4}{5}$.ח	$-\frac{1}{4}$.ז
$3\frac{5}{6}$.ג	5 .ה	$-\frac{1}{8}$.ד	$\frac{7}{12}$.ג	$\frac{7}{10}$.ב	$1\frac{5}{6}$.א (3
				$-\frac{1}{10}$.ח	$\frac{19}{21}$.ז
$-\frac{5}{8}$.ג	$7\frac{11}{12}$.ה	$1\frac{5}{12}$.ד	$3\frac{1}{12}$.ג	$1\frac{1}{6}$.ב	$2\frac{5}{6}$.א (4
				$-\frac{1}{20}$.ח	$2\frac{13}{18}$.ז
	$3\frac{5}{18}$.ה	$2\frac{5}{6}$.ד	$-13\frac{3}{4}$.ג	$1\frac{1}{10}$.ב	$2\frac{11}{24}$.א (5

בעיות יסודיות באחוזים:

סיכום כללי:

נוסחה לביצוע חישובים עם אחוזים:

$$\text{תמורת האחוז} = \text{שלם} \cdot \frac{\text{אחוז}}{100}$$

למשל, בהינתן גודל שלם 120, אשר יש לחשב כמה הם 40 אחוזים ממנו, נקבל לפי הנוסחה: $48 = 120 \cdot \frac{40}{100}$, כלומר: **תמורת האחוז 40 מהגודל 120 היא 48.**

שאלות:

- (1) בכיתה 30 תלמידים. 60% מתוכם בנות.
 - א. כמה בנות בכיתה?
 - ב. כמה בנים בכיתה?
- (2) בכיתה 28 בנות המהוות 70% מכלל התלמידים בכיתה.
 - א. כמה תלמידים בכיתה?
 - ב. כמה בנים בכיתה?
- (3) מחיר בגד-ים הוא 300 ₪. בסוף העונה הוא נמכר ב-20% הנחה.
 - א. מהו מחירו בסוף העונה?
 - ב. מה גודל ההנחה?
- (4) מחיר ההשקה של בושם מסוים הוא 500 ₪. לאחר מכן מועלה מחירו ב-8%.
 - א. מה מחירו הסופי?
 - ב. מה גודל ההתייקרות?
- (5) מחיר ליטר דלק הוא 5 ₪ לליטר. בחנוכה מוזל מחירו ב-7%.
 - א. מה מחירו בסוף השנה?
 - ב. מה גודל התייקרות?
- (6) מוצר מסויים מתייקר בסוכות ב-12%. בפורים מוזל המוצר ב-12%.
 - א. מה מחירו בסוף השנה?
 - ב. מה גודל התייקרות?

7) ענה על השאלות הבאות:

- א. באולם קולנוע 200 צופים, מתוכם 176 בנים.
מה אחוז הבנים בקהל?
- ב. בכיתה 30 תלמידים, מתוכם 18 בנות.
מה אחוז הבנות בכיתה?
- ג. מחיר מוצר התייקר מ-80 ₪ ל-120 ₪.
בכמה אחוזים התייקר המוצר?
- ד. מחיר מוצר הוזל מ-120 ₪ ל-80 ₪.
בכמה אחוזים הוזל המוצר?
- ה. מחיר מוצר התייקר מ-150 ₪ ל-200 ₪.
בכמה אחוזים התייקר המוצר?
- ו. מחיר מוצר הוזל מ-200 ₪ ל-150 ₪.
בכמה אחוזים הוזל המוצר?

תשובות סופיות:

- 1) א. 18 בנות. ב. 12 בנים.
- 2) א. 40 תלמידים. ב. 12 בנים.
- 3) א. 240 ₪ ב. 60 ₪
- 4) א. 540 ₪ ב. 40 ₪
- 5) 4.9755 ₪
- 6) 400 ₪
- 7) א. 88% ב. 60% ג. 50% ד. 33.33% ה. 33.33% ו. 25%

חזרה על תבניות מספר:

סיכום כללי:

משתנה הוא סמל המתאר כמות או גודל כלשהם אשר אינם ידועים ועשויים להשתנות.

תבנית מספר היא ביטוי אלגברי אשר מכיל משתנה (או משתנים). ניתן להציב במשתנים ערכים מספריים שונים ולקבל תוצאות שונות עבור תבנית המספר עצמה.

במתמטיקה, תפקידה של תבנית המספר הוא להביע גודל מסוים אשר לערכו יש משמעויות שונות. דוגמא לכך היא: קנייה של x פריטים, אשר כל אחד עולה 3 שקלים, יניבו תבנית מספר של $3 \cdot x$ אשר מייצגת את הסכום הכולל של הפריטים.

שאלות:

(1) חשב את ערכי הביטויים האלגבריים הבאים עבור ה- x הנתון:

א. $2x+5$ כאשר $x=3$ ב. x^2+3x כאשר $x=2$

ג. $-x^2+2x+3$ כאשר $x=5$ ד. $-x^2-9x+5$ כאשר $x=5$

ה. x^3+1 כאשר $x=-2$ ו. $4-x^3$ כאשר $x=-1$

ז. $(x+1)(2-x)$ כאשר $x=4$ ח. $x^2(3x-4)$ כאשר $x=3$

(2) חשב את ערכי הביטויים האלגבריים הבאים עבור ה- x הנתון:

א. $27x^5-2x^3+x$ כאשר $x=\frac{1}{3}$

ב. $\frac{1}{3}x^2+\frac{1}{2}x+6$ כאשר $x=-\frac{2}{3}$

3) הצב את הערכים המספריים במקום הפרמטרים וחשב את ערך תבנית המספר:

- | | |
|----------------------------------|---|
| א. $a^2 + 2ab + b^2$ | עבור: $a = 3, b = -5$ |
| ב. $(x-3)^2 + 3x^2b$ | עבור: $x = 5, b = -1$ |
| ג. $-x^3 - 2xy + y^4$ | עבור: $x = -2, y = -1$ |
| ד. $\frac{(a-2c)^4}{a} - a^2$ | עבור: $a = 2, c = -2$ |
| ה. $\frac{4a^2 - 3b}{c}$ | עבור: $a = -1, b = 2, c = -4$ |
| ו. $\sqrt{c-3a}$ | עבור: $c = 13, a = -1$ ועבור: $c = 82, a = \frac{1}{3}$ |
| ז. $\frac{p^3 + 2\sqrt{q+1}}{m}$ | עבור: $p = -5, q = 48, m = 3$ |

תשובות סופיות:

- | | | | | | |
|----------------------------------|--------------------|--------|--------|------------------|--------|
| 11. א. (1) | 10. ב. | ג. -12 | ד. -65 | ה. -7 | ו. 5 |
| ז. -10 | ח. 45 | | | | |
| 10. א. (2) | ב. $\frac{22}{27}$ | | | | |
| 4. א. (3) | ב. -71 | ג. 5 | ד. 644 | ה. $\frac{1}{2}$ | ז. -37 |
| ו. הצבה ראשונה: 4, הצבה שנייה: 9 | | | | | |

כינוס איברים:

סיכום כללי:

תבניות אלגבריות יכולות להכיל איברים רבים ולכן נרצה לכנס אותם על מנת לפשט את התבנית. כדי לכנס איברים ניקח את כל קבוצת האיברים מאותו הסוג ונחבר את המקדמים שלהם. דוגמא: $3x + 6x - 5x = (3 + 6 - 5)x = 4x$.
 איברים שונים נבדלים זה מזה בערך התבנית האלגברית שלהם.
 כך: $3x$ שונה מ- $4y$ ושונה מ- $2xy$. באותו האופן, האיברים x ו- x^2 הם שונים.

שאלות:

כנס איברים דומים:

- | | |
|---|--|
| $9x^2 - 2x^2 - 3x^2 - 2x^2$ (2) | $5x + 7x - 4x$ (1) |
| $x^2y - 3yx^2 + x^2y$ (4) | $-10xy + 15xy + xy - 2yx$ (3) |
| $2x^2 - 3m^2 - x^2 + 3m^2$ (6) | $8a^2 + 10a - 5a^2 - 11a + a^2$ (5) |
| $mn^2 + 4m^2n + 6n^2m - 10nm^2 + mn^2$ (8) | $3xy + y - 30y + 6yx - 7y$ (7) |
| $y^2 + x^2 - 5x^2 + 5y^2 + 4x^2 - 6y^2$ (10) | $-6 + x^3 + 4 - 3x^3 + 17x^3 - 17$ (9) |
| $5xy + 2x - 3yx - x + 1$ (12) | $7x^2 - 3x - 4x + 2$ (11) |
| $x + xy + y - 6yx - 6y - 6x$ (14) | $3 - x - x^2 + 4x + 5x^2 - 12$ (13) |
| $ab^2 + 6ba^2 - 6b + 16a^2b + 3b - 6b^2a$ (16) | $mn + n - 5m + 5nm - 14n + 3m$ (15) |
| $4x^2z + 6xz^2 - 6 - xz^2 + 12 + 10zx^2$ (18) | $z^3 - 4z^2 + 7 - z^3 - 8 + 8z^2$ (17) |
| $x^3 - 3x - 4x^2 + 2x + x^3 + x^2 - 2x^3$ (20) | $2 - x^3 - 3 - 4x^2 + 2x + x^3 + x^2 - 2$ (19) |
| $12x^2y^3 + 13a^2 - 20x^2y^3 + 2a^2$ (22) | $2a^2b + 3x^2y + 5a^2b + 10x^2y$ (21) |
| $-2x^3y + 5x^2 - 4yx^3 - 6x^2$ (24) | $2y^2 - 4x^3y^2 - 10y^2 - x^3y^2$ (23) |
| $5a^2b - 8ab^2 + 20a^2b - 14ab^2$ (26) | $2a^2b + 2b + 3a^2 + 5b$ (25) |
| $-12x^2 + 2y^2 + 3x^2y + 14xy^2 - 5xy^2 - 6y^2 + 2xy + 11x^2 + x^2y - 9xy$ (27) | |
| $21x^3y^3 + x^2y^2 - 3xy^3 + x^3y - 15x^2y^2 - 7x^3y + 12x^3y^3 - 4xy^3 + 4xy^3 - 6x^3y$ (28) | |

תשובות סופיות:

- | | | |
|---------------------------|------------------------|---|
| $4xy$ (3) | $2x^2$ (2) | $8x$ (1) |
| x^2 (6) | $4a^2 - a$ (5) | $-x^2y$ (4) |
| $15x^3 - 19$ (9) | $8mn^2 - 6nm^2$ (8) | $9xy - 36y$ (7) |
| $2xy + x + 1$ (12) | $7x^2 - 7x + 2$ (11) | 0 (10) |
| $-13n - 2m + 6mn$ (15) | $-5x - 5y - 5xy$ (14) | $4x^2 + 3x - 9$ (13) |
| $14x^2z + 5xz^2 + 6$ (18) | $4z^2 - 1$ (17) | $-5ab^2 + 22a^2b - 3b$ (16) |
| $7a^2b + 13x^2y$ (21) | $-3x^2 - x$ (20) | $-3x^2 + 2x - 3$ (19) |
| $-6x^3y - x^2$ (24) | $-8y^2 - 5x^3y^2$ (23) | $-8x^2y^3 + 15a^2$ (22) |
| | $25a^2b - 22ab^2$ (26) | $2a^2b + 3a^2 + 7b$ (25) |
| | | $-x^2 - 4y^2 + 4x^2y + 9xy^2 - 7xy$ (27) |
| | | $33x^3y^3 - 14x^2y^2 - 3xy^3 - 12x^3y$ (28) |

פישוט ביטויים ע"י פתיחת סוגריים:

סיכום כללי:

בעת ביצוע כפל בין שני איברים יש לכפול את המקדמים בנפרד ואת האותיות (משתנים) בנפרד.

כלל הפילוג:

$$\bullet a(b+c) = ab+ac$$

$$\bullet (a+b)(c+d) = ac+ad+bc+bd$$

שאלות:

(1) פשט את הביטויים הבאים:

א. $2x \cdot 3x$	ב. $-4x \cdot (-7x)$	ג. $-2x \cdot (-4x) \cdot (-3)$
ד. $8m^2 \cdot 4m^3$	ה. $3a^3 \cdot (-2a^2)$	ו. $-b \cdot 4b^2 \cdot \frac{b^2}{2}$
ז. $a \cdot 3b$	ח. $4a^2 \cdot 7b^2$	ט. $ab \cdot (-2a^2b)$

(2) פשט את הביטויים הבאים ע"י פתיחת סוגריים:

א. $2(3x-4)$	ב. $2(-3x^2+5x-1)$
ג. $(7x-2)4$	ד. $(1-2x)(-2)$
ה. $a(3a-1)$	ו. $b(b^2-3b+4)$
ז. $2x(5x+3)$	ח. $5x(x^2+2x-3)$
ט. $3t^2(4t-t^2+6)$	י. $\frac{5}{2}(4d^4-3d)d$

(3) פשט את הביטויים הבאים:

א. $5x+(3x-2)+(-4-2x)$	ב. $7x+(-4x-5)+3x+(-1+7x)$
ג. $8-(2x-5)-(4x+2)$	ד. $-6x-(-3x-1)-(-7-4x)+1$

$$\text{ה. } (3-2x^2+4)2+3(x-x^2)-6(7-5x)+4x^2$$

$$\text{ו. } 3y^2-(y+1-2y^2)+6(5y-6)-(-y-4)3+5(y^2+1)-7$$

4 פשט את הביטויים הבאים :

$$\text{א. } (x-1)(x+2) \quad \text{ב. } (x+3)(x-7)$$

$$\text{ג. } (3-x)(x+4) \quad \text{ד. } (3x+4)(5x+1)$$

$$\text{ה. } 3(4x+1)(2x-3) \quad \text{ו. } -2(3x-1)(5-2x)$$

5 פשט את ערכי הביטויים הבאים :

$$\text{א. } (x-1)(x+3)+2(3-x)$$

$$\text{ב. } (a+4)(a-2)-(a+5)(a-3)$$

$$\text{ג. } (2m-3)(4m+3)+5(2m^2-6)$$

$$\text{ד. } -x^2y^2(x^3y+x^2)+2xy(2x^3y-x^4y^2)$$

תשובות סופיות:

$$\text{(1) א. } 6x^2 \quad \text{ב. } 28x^2 \quad \text{ג. } -24x^2 \quad \text{ד. } 32m^5 \quad \text{ה. } -6a^5 \quad \text{ו. } -2b^5$$

$$\text{ז. } 3ab \quad \text{ח. } 28a^2b^2 \quad \text{ט. } -2a^3b^2$$

$$\text{(2) א. } 6x-8 \quad \text{ב. } -6x^2+10x-2 \quad \text{ג. } 28x-8 \quad \text{ד. } -2+4x$$

$$\text{ה. } 3a^2-a \quad \text{ו. } b^3-3b^2+4b \quad \text{ז. } 10x^2+6x \quad \text{ח. } 5x^3+10x^2-15x$$

$$\text{ט. } 12t^3-3t^4+18t^2 \quad \text{י. } 10d^5-7.5d^2$$

$$\text{(3) א. } 6x-6 \quad \text{ב. } 13x-6 \quad \text{ג. } -6x+11 \quad \text{ד. } x+9 \quad \text{ה. } -3x^2+33x-28$$

$$\text{ו. } 10y^2+32y-27$$

$$\text{(4) א. } x^2+x-2 \quad \text{ב. } x^2-4x-21 \quad \text{ג. } -x^2-x+12$$

$$\text{ד. } 15x^2+23x+4 \quad \text{ה. } 24x^2-30x-9 \quad \text{ו. } 12x^2-34x+10$$

$$\text{(5) א. } x^2+3 \quad \text{ב. } 7 \quad \text{ג. } 18m^2-6m-39 \quad \text{ד. } -3x^5y^3+3x^4y^2$$

פישוט ביטויים באמצעות נוסחאות הכפל המקוצר:

סיכום כללי:

- נוסחת ריבוע של סכום/הפרש: $(a \pm b)^2 = a^2 \pm 2ab + b^2$.
- נוסחה להפרש ריבועים: $(a+b)(a-b) = a^2 - b^2$.

שאלות:

(1) פשט את הביטויים הבאים:

א. $(x+5)^2$	ב. $(x+2)^2$	ג. $(4x+5)^2$
ד. $(6x+2)^2$	ה. $(7x+y)^2$	ו. $(5x+2y)^2$
ז. $(x^2+7)^2$	ח. $(x^2+y^2)^2$	ט. $(x^3+2y^2x)^2$

(2) פשט את הביטויים הבאים:

א. $(x-6)^2$	ב. $(x-2)^2$	ג. $(5-x)^2$
ד. $(6x-1)^2$	ה. $\left(3x-\frac{1}{2}\right)^2$	ו. $\left(\frac{1}{3}x-5\right)^2$
ז. $(3m-2n)^2$	ח. $\left(x^2-\frac{3}{5}y\right)^2$	ט. $(x^2y^2-7)^2$

(3) פשט את הביטויים הבאים:

א. $(x-5)(x+5)$	ב. $(3+x)(x-3)$
ג. $(3x-1)(3x+1)$	ד. $(5-7x)(7x+5)$
ה. $\left(\frac{1}{2}x+6\right)\left(\frac{1}{2}x-6\right)$	ו. $\left(5y-\frac{1}{4}x\right)\left(\frac{1}{4}x+5y\right)$
ז. $(x^2+y)(x^2-y)$	ח. $(3a^2b^3-4)(3a^2b^3+4)$

(4) פשט את הביטויים הבאים:

א. $(x+1)(x+2)-3x$	ב. $(x-5)(5x-1)+2(4+x)$
ג. $x(2x-1)(2x+1)-4x^2(x+1)$	ד. $-(y+3x)(y-3x)+(y-3x)^2$
ה. $x(x+3)-(6+x)(6x+2)-(x+2)^2$	
ו. $-5(x+7)(x-7)+3(2x+5)(5-x)+(x+1)^2$	

תשובות סופיות:

א. $x^2+10x+25$	ב. x^2+4x+4	ג. $16x^2+40x+25$	(1)
ד. $36x^2+24x+4$	ה. $49x^2+14xy+y^2$	ו. $25x^2+20xy+4y^2$	
ז. $x^4+14x+49$	ח. $x^4+2x^2y^2+y^4$	ט. $x^6+4x^4y^2+4y^4x^2$	
א. $x^2-12x+36$	ב. x^2-4x+4	ג. $25-10x+x^2$	(2)
ד. $36x^2-12x+1$	ה. $9x^2-3x+\frac{1}{4}$	ו. $\frac{1}{9}x^2-3\frac{1}{3}x+25$	
ז. $9m^2-12mn+4n^2$	ח. $x^4-\frac{6}{5}x^2y+\frac{9}{25}y^2$	ט. $x^4y^4-14x^2y^2+49$	
א. x^2-25	ב. x^2-9	ג. $9x^2-1$	(3)
ה. $\frac{1}{4}x^2-36$	ו. $25y^2-\frac{1}{16}x^2$	ז. x^4-y^2	
א. x^2+2	ב. $5x^2-24x+13$	ג. $-4x^2-x$	(4)
ד. $18x^2-6xy$	ה. $-6x^2-39x-16$	ו. $-10x^2+17x+321$	

פירוק לגורמים של ביטויים אלגבריים:

סיכום כללי:

פירוק לגורמים הוא פעולה הפוכה לפתיחת סוגריים – נרצה להוציא את הגורמים המשותפים לאיברים מחוץ לסוגריים.

- פירוק לגורמים ע"י הוצאת איבר אחד משותף:

○ הוצאת מספר משותף: $2x - 8 = 2(x - 4)$

○ הוצאת אות משותפת: $x^2 - 12x = x(x - 12)$

○ הוצאת מספר ואות יחד: $3x^2 - 21x = 3x(x - 7)$

- פירוק לגורמים ע"י נוסחאות הכפל המקוצר:

○ נוסחת הבינום של ניוטון: $a^2 \pm 2ab + b^2 = (a \pm b)^2$

○ נוסחה להפרש ריבועים: $a^2 - b^2 = (a + b)(a - b)$

שאלות:

- (1) פשט את הביטויים הבאים ע"י הוצאת גורם משותף:

א. $3x - 12$ ב. $6y - 4$

ג. $20 - 8a$ ד. $4a^3 + 8b$

ה. $75m^2 + 25m + 15$ ו. $40a^2 - 8b^2 + 64c^2$

- (2) פשט את הביטויים הבאים ע"י הוצאת גורם משותף:

א. $y^2 + 5y$ ב. $3x - 11x^3$

ג. $6y^2 + 5y^3 + 4y$ ד. $\frac{1}{2}a^7 - \frac{1}{4}a^5 + a^3$

3 פשט את הביטויים הבאים ע"י הוצאת גורם משותף :

א. $2x^2 - 8x$	ב. $3t^2 + 12t$
ג. $5n^3 - 20n^2 + 50n$	ד. $8y^2 + 6y^3 - 2y^4$
ה. $4x^2y^2 + 16x^2y - 20xy^2$	ו. $27mn - 3n^2m + 9n^3m$

4 פשט את הביטויים הבאים ע"י שימוש בנוסחאות הכפל המקוצר :

א. $x^2 + 10x + 25$	ב. $x^2 + 12x + 36$
ג. $y^2 - 18y + 81$	ד. $y^2 - 22y + 121$
ה. $4x^2 + 4x + 1$	ו. $16y^2 - 8y + 1$
ז. $9x^2 - 24x + 16$	ח. $25x^2 + 70x + 49$

5 פשט את הביטויים הבאים ע"י שימוש בנוסחאות הכפל המקוצר :

א. $r^2 - 25$	ב. $x^2 - 81$
ג. $25y^2 - 49$	ד. $121x^2 - 1$
ה. $x^2y^2 - 4$	ו. $9y^4 - 169x^4$

6 פשט את הביטויים הבאים ע"י הוצאת גורם משותף ונוסחאות הכפל המקוצר :

א. $y - y^3$	ב. $x^3 - 10x^2 + 25x$
ג. $m^4 - 1$	ד. $196x^4 - 140x^3 + 25x^2$

תשובות סופיות:

- א. $3(x-4)$ ב. $2(3y-2)$ ג. $4(5-2a)$ (1)
- ד. $4(a^3+2b)$ ה. $5(15m^2+5m+3)$ ו. $8(5a^2-b^2+8c^2)$
- א. $y(y+5)$ ב. $x(3-11x^2)$ ג. $y(6y+5y^2+4)$ (2)
- ד. $a^3\left(\frac{1}{2}a^4-\frac{1}{4}a^2+1\right)$
- א. $2x(x-4)$ ב. $3t(t+4)$ ג. $5n(n^2-4n+10)$ (3)
- ד. $2y^2(4+3y-y^2)$ ה. $4xy(xy+4x-5y)$ ו. $3mn(9-n-3n^2)$
- א. $(x+5)^2$ ב. $(x+6)^2$ ג. $(y-9)^2$ ד. $(y-11)^2$ (4)
- ה. $(2x+1)^2$ ו. $(4y-1)^2$ ז. $(3x-4)^2$ ח. $(5x+7)^2$
- א. $(r+5)(r-5)$ ב. $(x+9)(x-9)$ ג. $(5y+7)(5y-7)$ (5)
- ד. $(11x+1)(11x-1)$ ה. $(xy+2)(xy-2)$ ו. $(3y^2+13x^2)(3y^2-13x^2)$
- א. $y(1+y)(1-y)$ ב. $x(x-5)^2$ ג. $(m^2+1)(m+1)(m-1)$ (6)
- ד. $x^2(14x-5)^2$

פירוק הטרינום:

סיכום כללי:

טרינום משמעו תלת איבר מהצורה: $ax^2 + bx + c$ כאשר a, b ו- c הם מספרים כלשהם.

שיטת הטרינום מאפשרת לפרק את תלת האיבר ל-4 איברים ע"י פיצול האיבר bx לשני איברים באופן כזה שמאפשר להוציא גורם משותף.

הכלל הוא למצוא שני מספרים, m_1 ו- m_2 , שמקיימים: $m_1 \cdot m_2 = ac$ ו- $m_1 + m_2 = b$.
לאחר מכן ניתן לפרק את הטרינום: $ax^2 + bx + c = ax^2 + m_1x + m_2x + c$.
השלב האחרון הוא הוצאת גורם משותף מכל זוג: $ax^2 + \underbrace{m_1x + m_2x} + c$.

הערה:

במקרה שנוסחת השורשים ידועה, ניתן להיעזר בה כדי למצוא את המספרים m_1 ו- m_2 באופן

הבא: $m_1 = \frac{-b + \sqrt{b^2 - 4ac}}{2a}$, $m_2 = \frac{-b - \sqrt{b^2 - 4ac}}{2a}$ ולאחר מכן ניתן לכתוב את הטרינום

כמכפלה: $ax^2 + bx + c = a(x - m_1)(x - m_2)$. אם קיים פתרון (שורש) אחד $m_1 = m_2 = \frac{-b}{2a}$ אז

נכתוב: $ax^2 + bx + c = a(x - m_1)^2$ ואם לא קיימים פתרונות אז לא קיים פירוק כלל.

שאלות:

(1) פרק את הביטויים הבאים לפי פירוק טרינום:

- | | | |
|---------------------|---------------------|---------------------|
| א. $x^2 + 5x + 4$ | ב. $x^2 - 8x + 15$ | ג. $x^2 - 33x + 62$ |
| ד. $2x^2 + 7x - 15$ | ה. $3x^2 - 11x + 6$ | ו. $6x^2 + 5x + 1$ |
| ז. $2x^2 + x - 6$ | ח. $x^2 - 18x + 81$ | ט. $x^2 + 2x + 8$ |

(2) פרק את הביטויים הבאים ע"י שימוש בנוסחת השורשים.

הערה: במידה ולא למדת על נוסחת השורשים התעלם משאלה זו.

- | | |
|----------------------|--------------------|
| א. $6x^2 + 5x + 1$ | ב. $x^2 + 5x + 4$ |
| ג. $4x^2 + 20x + 25$ | ד. $3x^2 - x + 20$ |

תשובות סופיות:

(1) א. $(x+1)(x+4)$ ב. $(x-3)(x-5)$ ג. $(x-2)(x-31)$

ד. $(2x-3)(x+5)$ ה. $(3x-2)(x-3)$ ו. $(3x+1)(2x+1)$

ז. $(x+2)(2x-3)$ ח. $(x-9)^2$ ט. אין פירוק.

(2) א. $6\left(x+\frac{1}{3}\right)\left(x+\frac{1}{2}\right)$ ב. $(x+1)(x+4)$ ג. $(2x+5)^2$ ד. אין פירוק.

שברים אלגברים:

סיכום כללי:

הגדרה:

שבר אלגברי מורכב משתי תבניות, אשר אחת מחלקת את השנייה.

$$\text{דוגמא לשברים אלגבריים: } \frac{x+1}{x+2}, \frac{3x}{x^2+1}, \frac{4}{x-x^3}$$

במקרה בו המכנה הוא מספר, לא מדובר בשבר אלגברי מכיוון שניתן לכתוב את

$$\text{הביטוי ללא צורך בחילוק בין ביטויים שונים כגון: } \frac{3x+5}{4} = \frac{3}{4}x + \frac{5}{4}$$

תחום הגדרה של שבר:

היות ושבר אלגברי הוא תבנית אשר יכולה לקבל ערכים שונים בעת הצבות שונות, חשוב להגביל את המספרים שניתן להציב באופן כזה שלא תתקבל חלוקה באפס.

$$\text{דוגמא: השבר } \frac{1}{x+4} \text{ לא מוגדר כאשר } x = -4 \text{ מכיוון שמתקבל: } \frac{1}{0}$$

במקרים אלו נדרוש **תנאי** על המשתנה אשר יכתב באופן הבא: $x \neq -4$ ומשמעו היא ש- x יכול לקבל על ערך מספרי אפשרי למעט -4, מכיוון שבמקרה זה השבר לא מוגדר.

כלל צמצום שברים אלגברים:

ניתן לצמצם שברים אלגברים ע"י הבאת המונה והמכנה למכפלה של ביטויים. במידה וקיימות פעולות החיבור והחיסור בין איברים שונים לא ניתן לבצע צמצום של איברים דומים בין המונה והמכנה. להלן מספר דוגמאות הנוגעות לצמצומים:

$$\bullet \text{ צמצום ע"י הוצאת גורם משותף: } \frac{2x+8}{x+4} = \frac{2(x+4)}{x+4} = \frac{2 \cdot 1}{1} = 2$$

$$\bullet \text{ צמצום ע"י נוסחת כפל מקוצר: } \frac{3x-15}{x^2-10x+25} = \frac{3(x-5)}{(x-5)^2} = \frac{3 \cdot 1}{x-5} = \frac{3}{x-5}$$

$$\bullet \text{ צמצום ע"י פירוק טרינום: } \frac{x^2-2x-3}{x^2-3x-4} = \frac{(x+1)(x-3)}{(x+1)(x-4)} = \frac{x-3}{x-4}$$

שאלות:

(1) מצא את תחום ההגדרה של השברים האלגבריים הבאים:

א. $\frac{x+4}{x+3}$	ב. $\frac{5}{x-6}$
ג. $\frac{x+7}{2x-8}$	ד. $\frac{x^2+1}{x^2-4x}$
ה. $\frac{3}{x^2+2x+1}$	ו. $\frac{x^2}{x^2-4}$
ז. $\frac{6}{y^4-y^2}$	ח. $\frac{8x-2}{3x^3-15x^2+12x}$

(2) צמצם את השברים הבאים (במידה ולא ניתן צמצם הסבר מדוע):

א. $\frac{ax}{a}$	ב. $\frac{a-x}{a}$
ג. $\frac{a-ax}{a}$	ד. $\frac{x+1}{y+1}$
ה. $\frac{x}{x+y}$	ו. $\frac{6x}{6y}$
ז. $\frac{x^2y}{xy^2}$	ח. $\frac{x^2+y^2}{x^2y^2}$
ט. $\frac{4x^2y}{xy}$	י. $\frac{3x^2}{x^2+3}$

(3) צמצם את השברים הבאים ע"י הוצאת גורם משותף וכתוב את תחום הגדרתם:

א. $\frac{3x+12}{x+4}$	ב. $\frac{m^2+4m}{4m+16}$
ג. $\frac{2a-12}{a^2-6a}$	ד. $\frac{x^2-5x}{15-3x}$
ה. $\frac{3-18y^2}{6y^2-1}$	ו. $\frac{4x^3-2x^2}{6x-3}$
ז. $\frac{3y}{y^3-3y^2}$	ח. $\frac{3z^3-12z^2+4z}{z^2+5z}$

4) צמצם את השברים הבאים ע"י פירוק לגורמים וכתוב את תחום הגדרתם:

$\frac{8n - n^2}{n^2 - 16n + 64} \quad \text{ב.}$	$\frac{x^2 + 10x + 25}{2x + 10} \quad \text{א.}$
$\frac{4m^2 + 20m + 25}{4m^2 + 10m} \quad \text{ד.}$	$\frac{z^3 - 4z^2}{2z^2 - 16z + 32} \quad \text{ג.}$
$\frac{a^3 + 4a^2b + 4ab^2}{3ab + 6b^2} \quad \text{ו.}$	$\frac{18y^2 - 24y + 8}{2y - 3y^2} \quad \text{ה.}$

5) צמצם את השברים הבאים ע"י טרינום ריבועי וכתוב את תחום הגדרתם:

$\frac{m^2 - 12m + 32}{m - 4} \quad \text{ב.}$	$\frac{x + 2}{x^2 - 3x - 10} \quad \text{א.}$
$\frac{3z^2 + 26z + 16}{3z + 2} \quad \text{ד.}$	$\frac{4y - 10}{2y^2 + y - 15} \quad \text{ג.}$
$\frac{9n^2 - 12n}{4 + 5n - 6n^2} \quad \text{ו.}$	$\frac{x^2 + 5x - 36}{x^3 + 9x^2} \quad \text{ה.}$
$\frac{x^2 - 14x + 49}{x^2 + x - 56} \quad \text{ח.}$	$\frac{x^2 + 4x + 4}{x^2 + 5x + 6} \quad \text{ז.}$
$\frac{m^3n - m^2n^2 - m^2 + mn}{2m^2n^3 + mn^2 - 3n} \quad \text{י.}$	$\frac{3a^2b - 10ab^2 + 3b^3}{-3a^3b + 11a^2b^2 - 6ab^3} \quad \text{ט.}$

תשובות סופיות:

$$(1) \quad \text{א. } x \neq -3 \quad \text{ב. } x \neq 6 \quad \text{ג. } x \neq 4 \quad \text{ד. } x \neq 0, x \neq 4$$

$$\text{ה. } x \neq -1 \quad \text{ו. } x \neq -2, x \neq 2 \quad \text{ז. } y \neq 0, y \neq -1, y \neq 1$$

$$\text{ח. } x \neq 0, x \neq 1, x \neq 4$$

$$(2) \quad \text{א. } x \quad \text{ב. לא ניתן לצמצם} \quad \text{ג. } 1-x$$

$$\text{ד. לא ניתן לצמצם} \quad \text{ה. לא ניתן לצמצם} \quad \text{ו. } \frac{x}{y} \quad \text{ז. } \frac{x}{y}$$

$$\text{ח. לא ניתן לצמצם} \quad \text{ט. } 4x \quad \text{י. לא ניתן לצמצם}$$

$$(3) \quad \text{א. } x \neq -4, 3 \quad \text{ב. } \frac{m}{4}, m \neq -4 \quad \text{ג. } \frac{2}{a}, a \neq 0, 6$$

$$\text{ד. } -\frac{x}{3}, x \neq 5 \quad \text{ה. } -3, y \neq \pm \frac{1}{\sqrt{6}} \quad \text{ו. } \frac{2x^2}{3}, x \neq \frac{1}{2}$$

$$\text{ז. } \frac{3}{y(y-3)}, y \neq 0, 3 \quad \text{ח. } \frac{3z^2 - 12z + 4}{z+5}, z \neq 0, -5$$

$$(4) \quad \text{א. } \frac{x+5}{2}, x \neq -5 \quad \text{ב. } \frac{n}{8-n}, n \neq 8 \quad \text{ג. } \frac{z^2}{2(z-4)}, z \neq 4$$

$$\text{ד. } \frac{2m+5}{2m}, m \neq 0, -\frac{5}{2} \quad \text{ה. } \frac{2(2-3y)}{y}, y \neq 0, \frac{2}{3} \quad \text{ו. } \frac{a(a+2b)}{3b}, b \neq 0, a \neq -2b$$

$$(5) \quad \text{א. } \frac{1}{x-5}, x \neq 5, -2 \quad \text{ב. } m-8, m \neq 4 \quad \text{ג. } \frac{2}{y+3}, x \neq -3, \frac{5}{2}$$

$$\text{ד. } z+8, z \neq -\frac{2}{3} \quad \text{ה. } \frac{x-4}{x^2}, x \neq 0, -9 \quad \text{ו. } \frac{-3n}{2n+1}, n \neq -\frac{1}{2}, \frac{4}{3}$$

$$\text{ז. } \frac{x+2}{x+3}, x \neq -2, -3 \quad \text{ח. } \frac{x-7}{x+8}, x \neq 7, -8$$

$$\text{ט. } \frac{3a-b}{a(2b-3a)}, a \neq 0, b \neq 0, a \neq 3b, 2b \neq 3a \quad \text{י. } \frac{m(m-n)}{n(2mn+3)}, mn \neq 1, -\frac{3}{2}, n \neq 0$$

כפל וחילוק של שברים אלגברים:

סיכום כללי:

כפל שברים יתבצע ע"י הכפלת כל מונה בנפרד והכפלת כל מכנה בנפרד.
 חילוק שברים יתבצע ע"י לקיחת ההופכי של שבר המחלק וביצוע פעולת כפל.

$$\bullet \text{ דוגמה לכפל שברים: } \frac{x+1}{x^2} \cdot \frac{x}{3x+3} = \frac{x+1}{x^2} \cdot \frac{x}{3(x+1)} = \frac{\cancel{x}(x+1)}{3x^{\cancel{2}}(x+1)} = \frac{1}{3x}$$

$$\bullet \text{ דוגמה לחילוק שברים: } \frac{4x}{y} : \frac{12}{y^2+y} = \frac{4x}{y} \cdot \frac{y^2+y}{12} = \frac{\cancel{4}x}{\cancel{12}} \cdot \frac{\cancel{y}(y+1)}{\cancel{12}_3} = \frac{x(y+1)}{3}$$

שאלות:

(1) פשט את הביטויים הבאים:

$$\text{א. } \frac{x}{3} \cdot \frac{x}{8} \quad \text{ב. } \frac{x}{3} \cdot \frac{9}{x^2}$$

$$\text{ג. } 7y \cdot \frac{5}{y^2} \quad \text{ד. } 6x^2 \cdot \frac{3}{40x}$$

$$\text{ה. } (x^2+3x) \cdot \frac{2}{3x+9} \quad \text{ו. } (a^2-25) \cdot \frac{20}{5a+25}$$

$$\text{ז. } \frac{w^2-9}{w} \cdot \frac{w^2}{2w+6} \quad \text{ח. } \frac{y+4}{y^2+16} \cdot \frac{y^2-16}{2y+8}$$

$$\text{ט. } \frac{z^2+30z+225}{6z+90} \cdot \frac{12}{2z-10} \quad \text{י. } \frac{5n^2}{n^2-121} \cdot \frac{2n^2+44n+242}{n+2} \cdot \frac{n^2+4n+4}{n}$$

(2) פשט את הביטויים הבאים:

א. $\frac{x}{8} : \frac{x}{6}$	ב. $\frac{y}{25} : \frac{5}{y}$
ג. $a^2 : \frac{1}{6a}$	ד. $\frac{5}{6a} : a^2$
ה. $(d^2 - 3d) : \frac{5d - 15}{5d}$	ו. $\frac{t}{t+4} : \frac{3t}{t+4}$
ז. $\frac{y^2 + 8y + 16}{8y^2} : \frac{y^2 - 16}{7y^2}$	ח. $\frac{a^2 - 64}{a^2 - 36} : \frac{a+8}{a+6}$

תשובות סופיות:

א. $\frac{x^2}{24}$	ב. $\frac{3}{x}$	ג. $\frac{35}{y}$	ד. $\frac{9x}{20}$	ה. $\frac{2x}{3}$	(1)
ו. $4(a-5)$	ז. $\frac{w(w-3)}{2}$	ח. $\frac{y^2 - 16}{2y^2 + 32}$	ט. $\frac{z+15}{z-5}$	י. $\frac{10n(n+11)(n+2)}{n-11}$	
א. $\frac{3}{4}$	ב. $\frac{y^2}{125}$	ג. $6a^3$	ד. $\frac{5}{6a^3}$	ה. d^2	ו. $\frac{1}{3}$
ז. $\frac{7(y+4)}{8(y-4)}$	ח. $\frac{a-8}{a-6}$				

חיבור וחיסור של שברים אלגבריים:

סיכום כללי:

ביצוע פעולת החיבור והחיסור תתבצע באופן זהה לשברים מספריים. נרצה להרחיב את השברים כך שהמכנה של שניהם יהיה זהה, ולאחר מכן נחבר את המונים. כדי להרחיב את השברים נעזר בפעולת מציאת מכנה משותף. לשם כך נעזר בפירוקים השונים כדי להביא את הביטויים שבכל מכנה לצורתם המופשטת. דוגמא לחיבור שברים בעלי אותו מכנה:

$$\frac{1}{x} + \frac{x+1}{x} = \frac{1+(x+1)}{x} = \frac{x+2}{x}$$

דוגמא לחיבור מספר לשבר אלגברי:

$$2 + \frac{3}{x+2} = \frac{2(x+2)}{x+2} + \frac{3}{x+2} = \frac{2(x+2)+3}{x+2} = \frac{2x+7}{x+2}$$

דוגמא לחיבור שברים עם מכנים שונים (ע"י פעולת מכנה משותף):

$$\frac{1}{x+1} + \frac{1}{x} = \frac{x}{x(x+1)} + \frac{x+1}{x(x+1)} = \frac{x+x+1}{x(x+1)} = \frac{2x+1}{x(x+1)}$$

דוגמא לחיבור שברים ע"י שימוש בפירוק לגורמים (כדי למצוא מכנה משותף מינימלי):

$$\frac{1}{x^2-3x} + \frac{3}{x-3} = \frac{1}{x^2-3x} + \frac{3x}{x^2-3x} = \frac{1+3x}{x^2-3x}$$

דוגמא לחיבור שברים ע"י נוסחאות הכפל המקוצר (כדי למצוא מכנה משותף מינימלי):

$$\frac{3}{x^2-6x+9} - \frac{2}{x^2-9} = \frac{3}{(x-3)^2} - \frac{2}{(x-3)(x+3)} = \frac{3(x+3)-2(x-3)}{(x-3)^2(x+3)} = \frac{x+15}{(x-3)^2(x+3)}$$

שאלות:

(1) פשט את הביטויים הבאים:

א. $\frac{a}{6} + \frac{a-5}{6}$

ג. $\frac{x-2}{x+1} + \frac{3+4x}{x+1}$

ב. $\frac{5}{x} + \frac{4x+3}{x}$

ד. $\frac{7z}{2z-3} - \frac{4z}{2z-3} - \frac{z+3}{2z-3}$

(2) פשט את הביטויים הבאים:

א. $\frac{1}{ab} - \frac{5}{bc}$

ג. $\frac{c}{ab} - \frac{ad}{bc} + \frac{2b}{cd}$

ב. $\frac{1}{xy} + \frac{5}{yz} + \frac{4}{xz}$

ד. $-\frac{5}{x} + \frac{x+1}{xy^2}$

ה. $\frac{1}{(y+1)^2} + \frac{3}{y+1}$

ו. $\frac{3}{z(z-3)} - \frac{2}{z(z-2)}$

(3) פשט את הביטויים הבאים:

א. $1 - \frac{2}{x}$

ג. $2 + \frac{2}{x+1}$

ב. $1 + \frac{3}{y^2}$

ד. $3 - \frac{1}{x} + \frac{1}{3x}$

ה. $\frac{a+1}{a^2} - \frac{3-a}{4a} - 3$

ו. $\frac{x}{9yz} + \frac{z}{3y^2x} + \frac{3-y}{12xz} - 3\frac{1}{2}$

(4) פשט את הביטויים הבאים:

א. $\frac{3}{x+1} + \frac{1}{x}$

ג. $\frac{a+1}{a+2} + \frac{3}{a}$

ב. $\frac{4}{y+2} - \frac{3}{y}$

ד. $\frac{1}{z+3} + \frac{2}{3z} - \frac{3}{z}$

5 פשט את הביטויים הבאים :

$$\frac{3}{x^2-16} + \frac{2}{(x+4)^2} \quad \text{ב.}$$

$$\frac{24}{a^2-9} + \frac{4}{a+3} \quad \text{א.}$$

$$\frac{3z}{z^2+4z+3} - \frac{z+0.5}{z^2+2z+1} \quad \text{ד.}$$

$$\frac{y}{(y-2)^2} + \frac{3y}{4-y^2} \quad \text{ג.}$$

$$\frac{2a+3}{2a^2+15a+7} + \frac{a+3}{a^2+14a+49} \quad \text{ו.}$$

$$\frac{x-1}{x^2+3x-40} + \frac{2}{-x^2+8x-15} \quad \text{ה.}$$

$$\frac{1}{a-b} + \frac{2}{a+2b} - \frac{3b}{a^2+ab-2b^2} \quad \text{ח.}$$

$$\frac{x}{x-3} + \frac{9-x}{x^2-8x+15} \quad \text{ז.}$$

6 פשט את הביטויים הבאים :

$$\left(\frac{2}{x}+1\right) \cdot \frac{x^2}{7x+14} \quad \text{ב.}$$

$$\frac{4}{x} \cdot \frac{x^2}{8} + \frac{9}{x+1} \cdot \frac{x+1}{18} \quad \text{א.}$$

$$\left(3x - \frac{2}{x^2} + \frac{1}{x}\right) : \frac{6x^3+2x-4}{x^2} \quad \text{ד.}$$

$$\frac{7}{y^2} : \frac{6}{y^3} - \frac{y-4}{63} \cdot \frac{3y-4}{y^2-8y+16} \quad \text{ג.}$$

$$\left(\frac{2x+1}{20x^2-28x-3} - \frac{3x+1}{30x^2-17x-2}\right) : \frac{18x+3}{6x^2-13x+6} \quad \text{ה.}$$

תשובות סופיות:

$$(1) \quad \begin{array}{lll} \text{א.} & \frac{2a-5}{6} & \text{ב.} & \frac{4x+8}{x} & \text{ג.} & \frac{5x+1}{x+1} & \text{ד.} & 1 \end{array}$$

$$(2) \quad \begin{array}{lll} \text{א.} & \frac{c-5a}{abc} & \text{ב.} & \frac{z+5x+4y}{xyz} & \text{ג.} & \frac{c^2d - a^2d^2 + 2ab^2}{abcd} \end{array}$$

$$\begin{array}{lll} \text{ד.} & \frac{-5y^2 + x + 1}{xy^2} & \text{ה.} & \frac{3y+4}{(y+1)^2} & \text{ו.} & \frac{1}{(z-2)(z-3)} \end{array}$$

$$(3) \quad \begin{array}{lll} \text{א.} & \frac{x-2}{x} & \text{ב.} & \frac{y^2+3}{y^2} & \text{ג.} & \frac{2x+4}{x+1} \end{array}$$

$$\begin{array}{lll} \text{ד.} & \frac{9x-2}{3x} & \text{ה.} & \frac{-11a^2 + a + 4}{4a^2} & \text{ו.} & \frac{4x^2y + 12z^2 + 9y^2 - 3y^3 - 126xy^2z}{36xy^2z} \end{array}$$

$$(4) \quad \begin{array}{lll} \text{א.} & \frac{4x+1}{x(x+1)} & \text{ב.} & \frac{y-6}{y(y+2)} & \text{ג.} & \frac{a^2 + 4a + 6}{a(a+2)} \end{array}$$

$$\text{ד.} \quad \frac{4z+21}{3z(z+3)}$$

$$(5) \quad \begin{array}{lll} \text{א.} & \frac{4}{a-3} & \text{ב.} & \frac{5x+4}{(x-4)(x+4)^2} & \text{ג.} & \frac{2y(4-y)}{(y-2)^2(y+2)} \end{array}$$

$$\begin{array}{lll} \text{ד.} & \frac{(4z+3)(z-1)}{2(z+1)^2(z+3)} & \text{ה.} & \frac{x^2 - 6x - 13}{(x+8)(x-5)(x-3)} & \text{ו.} & \frac{4(a^2 + 6a + 6)}{(a+7)^2(2a+1)} \end{array}$$

$$\text{ז.} \quad \frac{x-3}{x-5} \quad \text{ח.} \quad \frac{3}{a+2b}$$

$$(6) \quad \begin{array}{lll} \text{א.} & \frac{x+1}{2} & \text{ב.} & \frac{x}{7} & \text{ג.} & \frac{147y^2 - 594y + 8}{126(y-4)} & \text{ד.} & \frac{1}{2} & \text{ה.} & \frac{1}{3(10x+1)} \end{array}$$

שברים כפולים:

סיכום כללי:

שבר כפול מורכב באופן הבא: $\frac{\frac{a}{b}}{\frac{c}{d}}$ כאשר מתקיים: $\frac{\frac{a}{b}}{\frac{c}{d}} = \frac{a}{b} \cdot \frac{d}{c} = \frac{ad}{bc}$

נובע מכאן כי ניתן לצמצם ביטויים בין שני המכנים או שני המונים בלבד.

שאלות:

פשט את הביטויים הבאים:

$\frac{y+1}{2y+2} \quad (2)$	$\frac{4x}{12} \quad (1)$
$\frac{5}{t^2-81}$	$\frac{x}{5}$
$\frac{9t^2}{6t+54} \quad (4)$	$\frac{t}{30t^2} \quad (3)$
$\frac{4x}{x+1} \quad (6)$	$\frac{3y^3-y^2}{25} \quad (5)$
$\frac{x^2+2x+1}{t^2-t-20}$	$\frac{y^2}{3-y}$
$\frac{16t+8}{25-t^2} \quad (8)$	$\frac{8c^2}{3c^3-9c^2-12c} \quad (7)$
$\frac{2t+1}{x^2+2x+1}$	$\frac{15c+15}{1-4+\frac{x}{x+1}} \quad (9)$
	$\frac{1-3x(x+1)}{5x+5}$

תשובות סופיות:

$$\frac{x^2}{3} \quad (1)$$

$$2.5 \quad (2)$$

$$\frac{1}{6t^3} \quad (3)$$

$$\frac{t-9}{54t^2} \quad (4)$$

$$\frac{(3y-1)(3-y)}{25} \quad (5)$$

$$\frac{x(x+1)}{2} \quad (6)$$

$$\frac{c}{c-4} \quad (7)$$

$$\frac{t+4}{-8(t+5)} \quad (8)$$

$$\frac{5}{x} \quad (9)$$

מכינה במתמטיקה להנדסת מכונות

פרק 2 - מבוא לתורת הקבוצות

תוכן העניינים

47 1. כללי

כללי:

סיכום כללי:

הגדרות יסודיות:

- גרירה חד כיוונית \Rightarrow : $A \Rightarrow B$ פירושו: אם A מתקיים אז גם B מתקיים.
- גרירה דו-כיוונית \Leftrightarrow (אם ורק אם): $A \Leftrightarrow B$ פירושו: $A \Rightarrow B$ וגם $B \Rightarrow A$.
- הסימן 'או': \vee .
- הסימן 'וגם': \wedge .

קבוצה, איבר של קבוצה ושייכות לקבוצה:

- קבוצה היא אוסף של עצמים.
- כל עצם בקבוצה נקרא איבר של הקבוצה.
- שייכות לקבוצה:
 - על מנת לציין שהאיבר a שייך לקבוצה A נרשום $a \in A$.
 - על מנת לציין שהאיבר a אינו שייך לקבוצה A נרשום $a \notin A$.

שוויון בין קבוצות:

- שתי קבוצות הן שוות אם יש להן בדיוק את אותם איברים.
- פורמלית שוויון בין קבוצות מוגדר באופן הבא: $A = B \Leftrightarrow (x \in A \Leftrightarrow x \in B)$.

הקבוצה ריקה:

קבוצה שאין בה כלל איברים נקראת הקבוצה הריקה ומסומנת ב- \emptyset , כלומר $\emptyset = \{ \}$.

קבוצה סופית ואינסופית:

- קבוצה תקרא סופית אם מספר האיברים בה סופי.
- קבוצה תקרא אינסופית אם מספר האיברים בה אינסופי.

עוצמה של קבוצה:

מספר האיברים של קבוצה A נקרא גם העוצמה של הקבוצה ומסומן $|A|$.

תת-קבוצה:

אם קבוצה A מוכלת בקבוצה B , נסמן זאת: $A \subseteq B$.

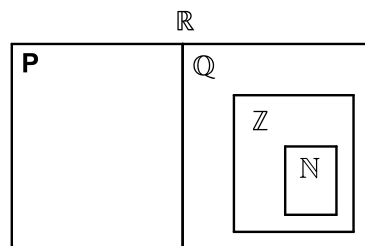
תמיד מתקיים:

- $A \subseteq A$
- $\emptyset \subseteq A$

עבור שוויון קבוצות נדרוש: $A = B \Leftrightarrow (A \subseteq B \wedge B \subseteq A)$ או $A = B \Leftrightarrow (x \in A \Leftrightarrow x \in B)$.

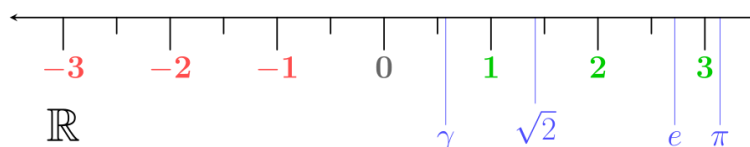
קבוצות מספרים מיוחדות:

- קבוצת המספרים הטבעיים: $\mathbb{N} = \{1, 2, 3, 4, \dots\}$
- קבוצת המספרים השלמים: $\mathbb{Z} = \{0, \pm 1, \pm 2, \pm 3, \pm 4, \dots\}$
- קבוצת המספרים הרציונאליים: $\mathbb{Q} = \left\{ \frac{p}{q} \mid p, q \in \mathbb{Z}, q \neq 0 \right\}$
- קבוצת המספרים האי-רציונאליים (אין סימון ספציפי לקבוצה זו, למעט P).
- קבוצת המספרים הממשיים: \mathbb{R} (כוללת את \mathbb{Q} ואת P).



ציר המספרים:

את קבוצת כל המספרים הממשיים ניתן לתאר על ידי הישר הממשי שהוא הישר שנקודותיו הן המספרים הממשיים:



קטעים על ציר המספרים:

סימון קטעים	סימון קבוצות	תיאור מילולי
(a, b)	$\{x \mid a < x < b\}$	הקטע הפתוח מ- a ל- b לא כולל נקודות הקצה
$[a, b]$	$\{x \mid a \leq x \leq b\}$	הקטע הסגור מ- a ל- b וכולל נקודות קצה
$[a, b)$	$\{x \mid a \leq x < b\}$	קטע חצי סגור וחצי פתוח, מכיל את a ולא את b
$(a, b]$	$\{x \mid a < x \leq b\}$	קטע חצי סגור וחצי פתוח, מכיל את b ולא את a
(a, ∞)	$\{x \mid a < x < \infty\}$	הקרן הפתוחה מ- a עד ∞ ללא a
$[a, \infty)$	$\{x \mid a \leq x < \infty\}$	הקרן הסגורה מ- a עד ∞ כולל a
$(-\infty, b)$	$\{x \mid -\infty < x < b\}$	הקרן הפתוחה מ- $-\infty$ עד b ללא b
$(-\infty, b]$	$\{x \mid -\infty < x \leq b\}$	הקרן הסגורה מ- $-\infty$ עד b כולל b

קבוצת החזקה של קבוצה נתונה:

קבוצת כל התת-קבוצות של קבוצה נתונה נקראת קבוצת החזקה של A ומסומנת $P(A)$.

איחוד וחיתוך קבוצות:

- איחוד קבוצות A ו- B פירושו הגדרת קבוצה חדשה שמכילה את כל האיברים של הקבוצות עצמן ומסומנת: $A \cup B$.
- חיתוך קבוצות A ו- B פירושו הגדרת קבוצה חדשה שמכילה את האיברים המשותפים של הקבוצות עצמן ומסומנת: $A \cap B$.

	תכונות החיתוך	תכונות האיחוד
	$A \cap B = B \cap A$	$A \cup B = B \cup A$
	$(A \cap B) \cap C = A \cap (B \cap C)$	$(A \cup B) \cup C = A \cup (B \cup C)$
$A \cup B$	$A \cap A = A$	$A \cup A = A$
	$A \cap \phi = \phi$	$A \cup \phi = A$
		$A \subseteq A \cup B$

הדיסטריביוטיביות של החיתוך מעל האיחוד ושל האיחוד מעל החיתוך:

$$A \cap (B \cup C) = (A \cap B) \cup (A \cap C)$$

$$A \cup (B \cap C) = (A \cup B) \cap (A \cup C)$$

הפרש קבוצות:

ההפרש של שתי קבוצות A ו- B המסומן $A - B$ הוא קבוצה שאיבריה הם

כל איברי A שאינם איברי B , כלומר: $A - B = \{x \mid x \in A \wedge x \notin B\}$.

משלים של קבוצה:

ההפרש $U - A$ מסומן ב- A^c או ב- A' ונקרא **המשלים** של A כאשר U היא הקבוצה האוניברסלית.

כללי דה-מורגן:

$$\bullet (A \cup B)^c = A^c \cap B^c$$

$$\bullet (A \cap B)^c = A^c \cup B^c$$

דיאגרמת וון:

תיאור גרפי של קבוצות ויחסים ביניהם.

שאלות:

1) רשום את הטענות הבאות במילים ובדוק האם הן נכונות:

א. $\forall x \forall y : (x + y)^2 > 0$

ב. $\forall x \exists y : (x + y)^2 > 0$

ג. $\forall x \forall y \exists z : xz = \frac{y}{4}$

ד. $\forall x > 0, \forall y > 0, \sqrt{xy} \leq \frac{x+y}{2}$

ה. $\forall n \exists k, n^3 - n = 6k$ (k ו- n טבעיים).

הערה: בסעיף זה הטבעיים כוללים את 0.

2) רשום כל אחת מהטענות הבאות בסימנים לוגיים:

א. פתרון אי-השוויון $x^2 > 4$, הוא $x > 2$ או $x < -2$.

ב. אי השוויון $x^2 + 4 > 0$, מתקיים לכל x .

ג. לכל מספר טבעי n , המספר $n^3 - n$ מתחלק ב-6.

ד. עבור כל מספר x , $|x| < 1$ אם ורק אם $-1 < x < 1$.

3) רשמו במפורש את הקבוצות הבאות על ידי צומדיים או באמצעות קטעים,

ואת מספר איברי הקבוצה:

א. $A = \{x \in \mathbb{R} \mid x^2 < 16\}$

ב. $B = \{x \in \mathbb{Z} \mid x^2 < 16\}$

ג. $C = \{x \in \mathbb{N} \mid x^2 < 16\}$

ד. $D = \{x \in \mathbb{Z} \mid (x+4)(x-1) < 0\}$

ה. $E = \{x \in \mathbb{N} \mid x^3 + x^2 - 2x = 0\}$

ו. $F = \{x \in \mathbb{Z} \mid |x| < 4\}$

4) הגדר את הקבוצות הבאות על ידי פירוט כל איבריהן או על ידי רישומן בצורה:

$A = \{x \mid x \text{ מקיים תכונה מסוימת}\}$

א. קבוצת המספרים השלמים החיוביים האי-זוגיים.

ב. קבוצת המספרים הראשוניים בין 10 ל-20.

ג. קבוצת הנקודות במישור הנמצאות על מעגל שמרכזו בראשית ורדיוסו 4.

ד. קבוצת ריבועי המספרים 1, 2, 3, 4.

(5) ציין אילו מן הקבוצות הבאות שוות זו לזו:

א. $A = \{11, 13, 17, 19\}$

ב. $B = \{x \mid 10 < x < 20, x \text{ מספר ראשוני}\}$

ג. $C = \{11, 11, 17, 13, 19\}$

ד. $D = \{x \mid x = 4k, k \in \mathbb{Z}\}$

ה. $E = \{x \mid x = 2m, m \text{ שלם זוגי}\}$

(6) נתונה הקבוצה הבאה: $A = \{1, 2, \{2\}, \{2, 5\}, 4, \{2, 4\}\}$

מי מבין הטענות הבאות נכונה:

ג. $\{2\} \in A$

ב. $2 \in A$

א. $5 \in A$

ו. $\emptyset \in A$

ה. $\{\{2\}\} \subseteq A$

ד. $\{2\} \subseteq A$

ט. $\{2, 4\} \subseteq A$

ח. $\{2, \{2\}\} \subseteq A$

ז. $\emptyset \subseteq A$

יב. $\{2, 5\} \subseteq A$

יא. $\{\{2, 4\}\} \in A$

י. $\{2, 4\} \in A$

יד. $\{1, 4\} \in A$

יג. $\{2, 5\} \in A$

(7) מצא שתי קבוצות, A ו- B , המקיימות:

א. $A \in B$

ב. $A \subseteq B$

(8) נתונות הקבוצות הבאות:

$A = \{3, 4, 5, 6, 7, 8, 9\}$, $B = \{4, 6, 8, 10\}$, $C = \{3, 5, 7, 9\}$, $D = \{6, 7, 8\}$, $E = \{7, 8\}$

קבע איזה מבין הקבוצות לעיל יכולה להיות הקבוצה X :

א. $X \subseteq A$ וגם $X \not\subseteq D$

ב. $X \subseteq D$ וגם $X \not\subseteq C$

ג. $X \subseteq E$ וגם $X \not\subseteq A$

(9) הוכח: $A \subseteq B \wedge B \subseteq C \Rightarrow A \subseteq C$

10 נתונות הקבוצות הבאות :

$$A = \{3, 4, 5, 6, 7, 8, 9\}, B = \{4, 6, 8, 10\}, C = \{3, 5, 7, 9\}, D = \{6, 7, 8\}$$

רשום את :

א. $A \cup B$ ב. $A \cap B$ ג. $(A \cup B) \cap C$

ד. $(B \cup C) \cap (B \cup D)$ ה. $(B \cap C) \cup (B \cap D)$

11 נתונות הקבוצות הבאות :

$$A = [1, 4), B = (-2, 1), C = \{x \in \mathbb{R} \mid 0 \leq x \leq 4\}, D = \{x \mid 2^x = 0\}$$

רשום את :

א. $A \cup B$ ב. $A \cap B$ ג. $(A \cup B) \cap C$

ד. $(B \cup C) \cap (B \cup D)$ ה. $(B \cap C) \cup (B \cap D)$

12 נתונות 3 קבוצות : $A = \{4, 5, 6, 7, 8\}, B = \{5, 6, 7, 8, 9\}, C = \{4, 5, 6, 10\}$

א. חשב את $(A - B) - C$.

ב. חשב את $A - (B - C)$.

13 נתון : $U = \{11, 12, 13, 14, 15, 16, 17, 18\}, A = \{12, 15, 18\}, B = \{13, 15, 17\}$

הדגם את כלל דה מורגן $(A \cup B)^c = A^c \cap B^c$.

14 הוכח את כלל דה מורגן הראשון $(A \cup B)^c = A^c \cap B^c$.

15 מצא את הקבוצה המשלימה, ביחס ל- \mathbb{R} , של הקבוצות הבאות :

א. $A = [1, \infty)$

ב. $B = (-\infty, 1) \cup (4, \infty)$

ג. $C = \{x \in \mathbb{R} \mid x^2 - 5x + 4 > 0\}$

ד. $D = \{x \in \mathbb{R} \mid |x - 1| < 2 \vee x > 4\}$

(16) הצג באמצעות דיאגרמת וון את הקבוצות הבאות:

ב. $A \cup B$

א. $A \cap B$

ד. $A \cap B^c$

ג. A^c

ו. $A \cup B^c$

ה. $A^c \cap B$

ח. $A^c \cup B^c = (A \cap B)^c$

ז. $A^c \cup B$

ט. $A^c \cap B^c = (A \cup B)^c$

(17) נתונה הקבוצה: $A = \{\phi, 4, \{4\}\}$

רשמו את $P(A)$.

(18) הוכיחו או הפריכו על ידי דוגמה נגדית:

א. לכל קבוצה A מתקיים $A \subseteq P(A)$.

ב. לכל קבוצה A מתקיים $A \not\subseteq P(A)$.

(19) הוכיחו כי: $A \subseteq B \Rightarrow P(A) \subseteq P(B)$.

תשובות סופיות:

- (1) א. לכל x ולכל y מתקיים $(x+y)^2 > 0$. הטענה אינה נכונה.
 ב. לכל x קיים y , כך ש- $(x+y)^2 > 0$. הטענה אינה נכונה.
 ג. לכל x ולכל y קיים z כך ש- $xz = \frac{y}{4}$. הטענה אינה נכונה.
 ד. לכל x חיובי ולכל y חיובי מתקיים $\sqrt{xy} \leq \frac{x+y}{2}$. הטענה נכונה.
 ה. לכל n טבעי המספר $n^3 - n$ מתחלק ב-6. הטענה נכונה.
- (2) א. $x^2 > 4 \Rightarrow x > 2 \vee x < -2$ ב. $\forall x: x^2 + 4 > 0$
 ג. $\forall n \exists k: n^3 - n = 6k$ ד. $\forall x: |x| < 1 \Leftrightarrow -1 < x < 1$
- (3) א. $A = (-4, 4)$, בקבוצה אינסוף איברים.
 ב. $B = \{-3, -2, -1, 0, 1, 2, 3\}$, בקבוצה 7 איברים.
 ג. $C = \{1, 2, 3\}$, בקבוצה 3 איברים.
 ד. $D = \{-3, -2, -1, 0\}$, בקבוצה 4 איברים.
 ה. $E = \{0, 1\}$, בקבוצה 2 איברים.
 ו. $F = \{-4, -3, -2, -1, 0, 1, 2, 3, 4\}$, בקבוצה 9 איברים.
- (4) א. $A = \{x \mid x = 2n - 1, n \in \mathbb{N}\}$ ב. $B = \{11, 13, 17, 19\}$
 ג. $C = \{(x, y) \mid x^2 + y^2 = 4^2, x \in \mathbb{R}, y \in \mathbb{R}\}$ ד. $D = \{1, 4, 9, 16\}$
- (5) הקבוצות A, B ו- C שוות זו לזו, והקבוצות D ו- E שוות זו לזו.
- (6) א. לא נכון. ב. נכון. ג. נכון. ד. נכון. ה. נכון.
 ו. לא נכון. ז. נכון. ח. נכון. ט. נכון. י. נכון.
 יא. לא נכון. יב. לא נכון. יג. נכון. יד. לא נכון.
- (7) $A = \{1, 2\}$, $B = \{\{1, 2\}, 1, 2\}$
- (8) א. A, C ב. E, D ג. לא קיימת קבוצה כזאת.
- (9) הוכחה.

$$A \cap B = \{4, 6, 8\} \quad \text{ב.}$$

$$(B \cup C) \cap (B \cup D) = \{4, 6, 7, 8, 10\} \quad \text{ד.}$$

$$A \cap B = \emptyset \quad \text{ב.}$$

$$(B \cup C) \cap (B \cup D) = (-2, 1) \quad \text{ד.}$$

$$A \cup B = \{3, 4, 5, 6, 7, 8, 9, 10\} \quad \text{א. (10)}$$

$$(A \cup B) \cap C = \{3, 5, 7, 9\} \quad \text{ג.}$$

$$(B \cap C) \cup (B \cap D) = \{6, 8\} \quad \text{ה.}$$

$$A \cup B = (-2, 4) \quad \text{א. (11)}$$

$$(A \cup B) \cap C = (0, 4) \quad \text{ג.}$$

$$(B \cap C) \cup (B \cap D) = [0, 1) \quad \text{ה.}$$

$$\phi \quad \text{א. (12)} \quad \text{ב. } \{4, 5, 6\}$$

(13) ללא פתרון.

(14) הוכחה.

$$A^c = (-\infty, 1) \quad \text{א. (15)} \quad B^c = [1, 4] \quad \text{ב.} \quad C^c = [1, 4] \quad \text{ג.} \quad D^c = (-\infty, 1] \cup [3, 4] \quad \text{ד.}$$

(16) ראו סרטון.

$$P(A) = \{\emptyset, \{\emptyset\}, \{4\}, \{\{4\}\}, \{\emptyset, 4\}, \{4, \{4\}\}, \{\emptyset, \{4\}\}, \{\emptyset, 4, \{4\}\}\} \quad \text{(17)}$$

(18) הוכחה.

(19) הוכחה.

מכינה במתמטיקה להנדסת מכונות

פרק 3 - משוואות אלגבריות

תוכן העניינים

57	1. משוואות ממעלה ראשונה
59	2. מערכת שתי משוואות בשני נעלמים ממעלה ראשונה
62	3. משוואות עם אינסוף פתרונות וללא פתרון
63	4. משוואה ממעלה שנייה
65	5. משוואות דו-ריבועיות
67	6. משוואות עם פרמטרים
69	7. משוואות עם שורשים
71	8. משוואות עם ערך מוחלט
72	9. מערכת משוואות ממעלה שנייה
74	10. משוואות מתקדמות מסכמות
77	11. פישוט ביטויים ומשוואות ממעלה שלישית

משוואה ממעלה ראשונה:

סיכום כללי:

משוואה ממעלה ראשונה היא מהצורה: $ax = b$ (כלומר, החזקה של הנעלם היא 1).

פתרון של משוואה ממעלה ראשונה הוא $x = \frac{b}{a}$ כאשר $a \neq 0$.

שלבי הפתרון הם:

1. ביצוע מכנה משותף (במידה וצריך).
2. פתיחת סוגריים אם ישנם.
3. העברת אגפים וכינוס אברים דומים (בידוד הנעלם באגף אחד והמספרים באגף שני).
4. בידוד הנעלם ומציאתו ע"י חילוק במקדם שלו.

שאלות:

(1) פתור את המשוואות הבאות (משוואות יסודיות ממעלה ראשונה):

- | | |
|-----------------------------|---------------------------------------|
| א. $6x + 2 = 8$ | ב. $7 - 2x = 7$ |
| ג. $2x + x = 24$ | ד. $2x + 6 = 8 + x$ |
| ה. $-7x + 5 + 2x = 4x - 13$ | ו. $6x - 3 + 5 - 7x = x - 5x - 7$ |
| ז. $2 - 5x + 7 = -3x + 8$ | ח. $x - 2 + 5x = 4 - 3x - 5 + 7x + 7$ |

(2) פתור את המשוואות הבאות (משוואות עם פתיחת סוגריים):

- | | |
|------------------------------|-------------------------------------|
| א. $3(x - 1) - 4 = 2$ | ב. $7x - 4(3 - 4x) = -x$ |
| ג. $6(4 - x) - (6 - x) = 3x$ | ד. $5x - (3x - 7)4 = 21$ |
| ה. $x(x - 5) = x^2 - 7x + 8$ | ו. $(7 - x)(1 - x) - (x - 3)^2 = 0$ |

3 פתור את המשוואות הבאות (משוואות עם מכנה מספרי):

$$\begin{array}{ll} \text{א. } \frac{x}{3} - \frac{x}{9} = -4 & \text{ב. } \frac{4x}{15} - \frac{3x}{10} = 1 \\ \text{ג. } \frac{2}{3}x + \frac{4}{5}x = x - \frac{7}{15} & \text{ד. } \frac{5x+1}{6} - \frac{6x-1}{5} = \frac{3x+1}{4} - 1 \\ \text{ה. } \frac{2}{5}(x-3) - \frac{3}{15}(4-x) = x+2 & \text{ו. } 5\left(\frac{x}{3} - \frac{x}{7}\right) - x = 1 \end{array}$$

4 פתור את המשוואות הבאות (משוואות עם נעלם במכנה):

$$\begin{array}{ll} \text{א. } \frac{1}{4} - \frac{2}{x} = 0 & \text{ב. } \frac{1}{2} - \frac{x}{x-1} = 0 \\ \text{ג. } \frac{3}{x} = \frac{1}{x+2} & \text{ד. } \frac{5}{2x-1} = \frac{4}{3x+2} \\ \text{ה. } \frac{x+5}{3x^2} - \frac{1}{6x} = \frac{1}{x} & \text{ו. } \frac{1}{4x} + \frac{3}{x} = \frac{13}{2} \end{array}$$

5 פתור את המשוואות הבאות (משוואות עם מכנה משותף ע"י פירוק לגורמים):

$$\begin{array}{ll} \text{א. } \frac{x^2+2}{3x^2+5x} = \frac{3x-1}{9x+15} & \text{ב. } \frac{7}{x^2-1} + \frac{2}{x+1} + \frac{3}{2-2x} = 0 \\ \text{ג. } \frac{3}{(2-x)^2} + \frac{5}{12-3x^2} = 0 & \text{ד. } \frac{4x^2-24x+36}{x-3} = 12 \end{array}$$

תשובות סופיות:

- (1) א. $x=1$ ב. $x=0$ ג. $x=8$ ד. $x=2$ ה. $x=2$ ו. $x=-3$
- ז. $x=\frac{1}{2}$ ח. $x=4$
- (2) א. $x=3$ ב. $x=\frac{1}{2}$ ג. $x=2\frac{1}{4}$ ד. $x=1$ ה. $x=4$ ו. $x=-1$
- (3) א. $x=-18$ ב. $x=-30$ ג. $x=-1$ ד. $x=1$ ה. $x=-10$ ו. $x=-21$
- (4) א. $x=8$ ב. $x=-1$ ג. $x=-3$ ד. $x=-2$ ה. $x=2$ ו. $x=\frac{1}{2}$
- (5) א. $x=-6$ ב. $x=-7$ ג. $x=-7$ ד. $x=6, x \neq 3$

מערכת שתי משוואות בשני נעלמים ממעלה ראשונה:

סיכום כללי:

הגדרה:

מערכת שתי משוואות בשני נעלמים ממעלה ראשונה (ליניאריות) היא מהצורה הבאה:

$$\begin{cases} a_1x + b_1y = c_1 \\ a_2x + b_2y = c_2 \end{cases}$$

כאשר a_1, b_1, c_1 ו- a_2, b_2, c_2 הם מקדמים מספריים.

$$\cdot \begin{cases} y = 3x - 1 \\ \frac{x + 3}{2} = y + 6 \end{cases}, \begin{cases} x + y = 3 \\ 2x - y = 1 \end{cases} : \text{דוגמאות למערכות של משוואות}$$

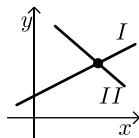
פתרון של מערכת משוואות:

פתרון של מערכת המשוואות הוא זוג סדור המקיים את כל המשוואות שבמערכת.

הצגה גרפית של מערכת משוואות:

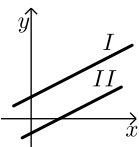
פתרון גרפי של מערכת משוואות הוא נקודת החיתוך של הישרים המייצגים כל משוואה.

יתכנו שלושה מצבים הדדיים בין שני ישרים:



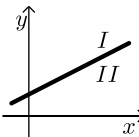
- הישרים נחתכים:

במקרה זה נקודת החיתוך תהיה פתרון המערכת.



- הישרים מקבילים:

במקרה זה לא יהיה פתרון למערכת.



- הישרים מתלכדים:

במקרה זה יהיו אינסוף פתרונות למערכת המשוואות.

פתרון אלגברי של מערכת משוואות:

- פתרון ע"י שיטת ההצבה :
נבודד את אחד הנעלמים ממשוואה אחת ונציב אותו במשוואה השנייה.
נבחר בשיטה זו במקרים בהם קל לבודד נעלם באחת המשוואות.
 - פתרון ע"י השוואת מקדמים :
1. כופלים (או מחלקים) משוואה אחת (או שתיהן) במספר השונה מאפס כך שתתקבלנה משוואות שקולות בעלות מקדמים נגדיים או זהים עבור אחד המשתנים.
 2. מחברים (או מחסרים) את המשוואות ומקבלים משוואה חדשה עם נעלם אחד.
 3. מוצאים את ערך הנעלם מהמשוואה החדשה ומציבים אותו באחת המשוואות המקוריות למציאת ערך הנעלם השני.

הערה:

נוח להשתמש בשיטת השוואת המקדמים ע"י כך שמעבירים את המערכת הנתונה למערכת שקולה שבה המשתנים באגף אחד והמספר החופשי באגף השני.

שאלות:

1) פתור את המשוואות הבאות :

$\begin{cases} -3x + 2y = -16 \\ x = 5y + 14 \end{cases} \text{ ג.}$	$\begin{cases} y = x - 3 \\ y = 2x + 4 \end{cases} \text{ ב.}$	$\begin{cases} 3x + y = 11 \\ y = 5 \end{cases} \text{ א.}$
$\begin{cases} 2x + 3y = 5 \\ 5x + 7y = 11 \end{cases} \text{ ו.}$	$\begin{cases} -5x + 7y = -26 \\ x + 3y = -8 \end{cases} \text{ ה.}$	$\begin{cases} 5x - 2y = -2 \\ x + 4y = 4 \end{cases} \text{ ד.}$

2) פתור את המשוואות הבאות :

$\begin{cases} 5x + 2y = 14 \\ 5x + 3y = 23 \end{cases} \text{ ב.}$	$\begin{cases} x + 3y = 5 \\ x - 3y = 3 \end{cases} \text{ א.}$
$\begin{cases} 4x = 3y - 29 \\ 5y = 9 - 13x \end{cases} \text{ ד.}$	$\begin{cases} 5y = 2x \\ 4x = 5y + 8 \end{cases} \text{ ג.}$

3) פתור את המשוואות הבאות :

$\begin{cases} 2(x - y) + 4y = 1 + x \\ 2 - 7y + x = 3(x - y) \end{cases} \text{ ב.}$	$\begin{cases} x + 2y = 1 \\ 4x + 8y = 5 \end{cases} \text{ א.}$
---	--

4 פתור את המשוואות הבאות :

$$\begin{cases} \frac{x-3}{8} - \frac{x+y}{16} = \frac{y-1}{4} & \text{ב.} \\ 3(2x-y) - 4x - 11 = 0 \end{cases}$$

$$\begin{cases} 3y - x + 2 = 4x + 2 - 3y & \text{א.} \\ 2x - 3 - y = 5y - 4x + 3 \end{cases}$$

$$\begin{cases} \frac{3x-1}{4} - \frac{2}{5}(x-y) = \frac{3}{10}(x+3) & \text{ג.} \\ \frac{x+1}{4} - \frac{y}{2} = 1 \end{cases}$$

5 פתור את המשוואות הבאות :

$$\begin{cases} 4x - \frac{7}{y} = -3 & \text{ג.} \\ 5x + \frac{2}{y} = 7 \end{cases}$$

$$\begin{cases} \frac{3}{x} + \frac{3}{y} = 2 & \text{ב.} \\ \frac{9}{x} - \frac{4}{y} = -7 \end{cases}$$

$$\begin{cases} \frac{3}{x} + \frac{1}{y} = 4 & \text{א.} \\ \frac{5}{x} - \frac{1}{y} = 4 \end{cases}$$

6 פתור את המשוואות הבאות :

$$\begin{cases} xy = 20 & \text{ב.} \\ y(3x-4) = 20 \end{cases}$$

$$\begin{cases} x(y+2) + y = xy - 5 & \text{א.} \\ x - y = 2 \end{cases}$$

$$\begin{cases} 5x - 4xy = 22 & \text{ג.} \\ 6x + xy = -20 \end{cases}$$

תשובות סופיות:

1 א. (2,5) ב. (-7,-10) ג. (4,-2) ד. (0,1) ה. (1,-3) ו. (-2,3)

2 א. $(4, \frac{1}{3})$ ב. $(-\frac{4}{5}, 9)$ ג. (4,1.6) ד. (-2,7)

3 א. אין פתרון. ב. אינסוף פתרונות.

4 א. (6,5) ב. (7,1) ג. (7,2)

5 א. (1,1) ב. (-3,1) ג. (1,1)

6 א. (-1,-3) ב. (2,10) ג. (-2,4)

משוואות עם אינסוף פתרונות וללא פתרון:

סיכום כללי:

משוואה ממעלה ראשונה:

למשוואה ממעלה ראשונה מהצורה: $ax = b$ יתכן פתרון יחיד אם ורק אם $a \neq 0$
 מכיוון שניתן לחלק ולכתוב: $x = \frac{b}{a}$.

כאשר $a = 0$ מתקבלת המשוואה $0 \cdot x = b$ ויתכנו שני מצבים:

1. אם $b = 0$ את המשוואה היא $0x = 0$ ויש אינסוף פתרונות המקיימים אותה.
2. אם $b \neq 0$ את המשוואה היא $0x = b \neq 0$ ואין אף ערך של x המקיים אותה.

שאלות:

פתור את המשוואות הבאות:

$$x + 4 = 6 + x \quad (1) \qquad 3x + 6 - x = 4 + 2x + 2 \quad (2)$$

$$6(x - 2) = 2x + 5 + 4x \quad (3) \qquad 5x - 3 + x = 4x + 2x - 3 \quad (4)$$

$$(5) \quad \text{נתונה המשוואה: } 3 - 2(x + 2) = 5x + \square$$

- א. איזה מספר יש להציב ב- \square על מנת שפתרון המשוואה יהיה 1?
- ב. איזה מספר יש להציב ב- \square על מנת שפתרון המשוואה יהיה 0?
- ג. מצא ביטוי אלגברי שיש להציב ב- \square על מנת שלמשוואה יהיו אינסוף פתרונות.
- ד. מצא ביטוי אלגברי שיש להציב ב- \square על מנת שלמשוואה לא יהיה פתרון.

תשובות סופיות:

- (1) אף פתרון.
- (2) אינסוף פתרונות.
- (3) אין פתרון.
- (4) אינסוף פתרונות.
- (5) א. -8 ב. -1 ג. $-7x - 1$
 ד. $-7x + k$ כאשר k הוא מספר כלשהו השונה מ-1.

משוואה ממעלה שנייה:

סיכום כללי:

משוואה מהצורה: $ax^2 + bx + c = 0$ ($a \neq 0$), נקראת משוואה ריבועית. פתרונות המשוואה יסומנו ב- x_1 ו- x_2 ויחושבו לפי נוסחת השורשים:

$$x_{1,2} = \frac{-b \pm \sqrt{b^2 - 4ac}}{2a}$$

למשוואה ריבועית יתכנו שלושה סוגים של פתרונות:

- משוואה עם שני פתרונות ממשיים שונים.**
 אם מתקבל מספר חיובי בתוך השורש שבנוסחת השורשים אזי למשוואה יהיו שני פתרונות ממשיים שונים.
 דוגמא: $x^2 + 5x - 4 = 0$.
- משוואה עם פתרון ממשי אחד בלבד.**
 אם מתקבל אפס בתוך השורש שבנוסחת השורשים אזי למשוואה יהיה פתרון ממשי אחד בלבד.
 דוגמא: $x^2 + 4x + 4 = 0$.
- משוואה ללא פתרונות ממשיים כלל.**
 אם מתקבל מספר שלילי בתוך השורש שבנוסחת השורשים אזי למשוואה לא יהיו פתרונות ממשיים כלל.
 דוגמא: $x^2 + x + 4 = 0$.

שאלות:

(1) פתור את המשוואות הבאות:

ב. $-x^2 + 10x - 16 = 0$

ד. $2x^2 - 6x + 5 = 0$

א. $x^2 + 3x - 10 = 0$

ג. $25x^2 - 20x + 4 = 0$

(2) פתור את המשוואות הבאות:

ב. $-x(x-5) = (1-3x)(1-x) + 4$

ד. $(2x-1)^2 + x(2x+3) = (x-1)(x-7)$

א. $4x^2 - 5x + 7 = 4 - x^2 + 13$

ג. $2(x-5)^2 - (2x-3)^2 = 10x + 21$

(3) פתור את המשוואות הבאות (משוואה חסרת b):

$$\begin{array}{ll} \text{א.} & x^2 - 36 = 0 \\ \text{ב.} & 32x^2 - 18 = 0 \\ \text{ג.} & 4x - x(x+2) = 3(x-1) - x - 6 \\ \text{ד.} & (2x-1)^2 + (2x+1)^2 = 10 \end{array}$$

(4) פתור את המשוואות הבאות (משוואה חסרת c):

$$\begin{array}{ll} \text{א.} & -7x^2 - 14x = 0 \\ \text{ב.} & 5x^2 - x = 0 \\ \text{ג.} & 6x(x-2) - 1 = 4x - 3(x+1) + 2 \\ \text{ד.} & (5x-2)^2 = (x-2)(x+3) + 10 \end{array}$$

(5) פתור את המשוואות הבאות:

$$\begin{array}{ll} \text{א.} & \frac{4x+1}{3} - \frac{x+2}{2} = \frac{2}{x} \\ \text{ב.} & \frac{x^2-9}{x+3} + x = x^2 - 18 \\ \text{ג.} & \frac{3}{2x+2} - \frac{2x-5}{2(x-1)^2} - \frac{4}{1-x^2} = 0 \\ \text{ד.} & \frac{x}{2x^2-72} + \frac{2}{x^2+12x+36} = \frac{8x-15}{24-4x} + 2 \end{array}$$

תשובות סופיות:

$$\begin{array}{ll} \text{(1)} & \text{א. } x_1 = 2, x_2 = -5 \quad \text{ב. } x_1 = 2, x_2 = 8 \\ & \text{ג. } x = \frac{2}{5} \quad \text{ד. אין פתרון.} \\ \text{(2)} & \text{א. } x_1 = 2, x_2 = -1 \quad \text{ב. } x_1 = 1, x_2 = 1\frac{1}{4} \\ & \text{ג. } x_1 = 1, x_2 = -10 \quad \text{ד. } x_1 = 0.6, x_2 = -2 \\ \text{(3)} & \text{א. } x = \pm 6 \quad \text{ב. } x = \pm \frac{3}{4} \\ & \text{ג. } x = \pm 3 \quad \text{ד. } x = \pm 1 \\ \text{(4)} & \text{א. } x_1 = 0, x_2 = -2 \quad \text{ב. } x_1 = 0, x_2 = \frac{1}{5} \\ & \text{ג. } x_1 = 0, x_2 = 2\frac{1}{6} \quad \text{ד. } x_1 = 0, x_2 = \frac{7}{8} \\ \text{(5)} & \text{א. } x_1 = 2, x_2 = -1.2 \quad \text{ב. } x = 5, x \neq -3 \\ & \text{ג. } x_1 = 0, x_2 = -5 \quad \text{ד. } x_1 = -7.6, x_2 = -4\frac{2}{7} \end{array}$$

משוואות דו-ריבועיות:

סיכום כללי:

משוואה דו-ריבועית היא משוואה מהצורה: $ax^4 + bx^2 + c = 0$ כאשר הנעלם הוא x .
 פתרון המשוואה יבוצע ע"י מעבר לפרמטר: $x^2 = t \rightarrow at^2 + bt + c = 0$ ומציאתו.
 לאחר מכן יש להחזיר את ההצבה ולמצוא את ערכי x .

ניתן להביא משוואות לצורה זו ולהגדיר ביטוי המופיע בחזקות 2 ו-4 כגון:
 $t = x^2 - 1$: באמצעות פרמטר: $(x^2 - 1)^2 + 3(x^2 - 1) - 2 = 0$
 ובכך לפתור משוואה: $t^2 + 3t - 2 = 0$ ולהחזיר את ההצבה עבור מציאת x .
 דרך הפתרון תקפה לכל משוואה בה הנעלם מופיע בחזקות כפולות כגון 3 ו-6, או 4 ו-8.

שאלות:

פתור את המשוואות הבאות:

- | | |
|--|---|
| $x^4 - 3x^2 + 2 = 0$ (2) | $5x^4 + 3x^2 - 8 = 0$ (1) |
| $x^2(x^2 + 1) = 10(3x^2 - 10)$ (4) | $13x^2(3x^2 - 1) - 2 = 3(x^2 - 1)(x^2 + 1)$ (3) |
| $x^3 + 4 = \frac{32}{x^3}$ (6) | $x^6 + x^3 = 56$ (5) |
| $x^8 - 4x^4 - 50 = 31x^4 - 84$ (8) | $x - 9\sqrt{x} + 14 = 0$ (7) |
| $(2x^2 - x)^2 - 4(2x^2 - x) + 3 = 0$ (10) | $125x^6 - 1 = 124(x^6 + x^3 + 1)$ (9) |
| $\frac{21}{x^2 - 4x + 10} = 6 + x^2 - 4x$ (12) | $(x^2 + 2x)^2 + 7x^2 + 14x = -6$ (11) |
| $\frac{x^2 + 2x + 2}{x^2 + 2x + 3} = \frac{7}{6} - \frac{x^2 + 2x + 1}{x^2 + 2x + 2}$ (14) | $\frac{12}{x^2 + 2x - 8} = 1 + \frac{7.5}{x^2 + 2x - 3}$ (13) |
| $\frac{x^2 - 1}{4x^2 - 28} + 2 = \frac{9}{x^4 - 8x^2 + 7} + \frac{x^2}{2x^2 - 2}$ (16) | $\frac{3}{3x^2 - 15} + \frac{1}{x^2 + 5} = \frac{10}{x^4 - 25}$ (15) |
| $\frac{3x^4}{(x+2)^2} + \frac{3x^2}{x+2} = 6$ (18) | $\left(2x + \frac{3}{x}\right)^2 + 35 = 12\left(2x + \frac{3}{x}\right)$ (17) |
| $(x^2 - 5x + 6)(x^2 - 5x - 8) = -24$ (20) | $(2x - x^2 + 3)(2x - x^2 - 2) = 0$ (19) |

תשובות סופיות:

$$x = \pm 1 \quad (1)$$

$$x = \pm 1, \pm \sqrt{2} \quad (2)$$

$$x = \pm \frac{1}{2}, \pm \frac{1}{3} \quad (3)$$

$$x = \pm 2, \pm 5 \quad (4)$$

$$x_1 = \sqrt[3]{7}, x_2 = -2 \quad (5)$$

$$x = -2, \sqrt[3]{4} \quad (6)$$

$$x_1 = 4, x_2 = 49 \quad (7)$$

$$x_{1,2} = \pm \sqrt[4]{34}, x_{3,4} = \pm 1 \quad (8)$$

$$x = 5, -1 \quad (9)$$

$$x_1 = 1.5, x_2 = -1, x_3 = 1, x_4 = -\frac{1}{2} \quad (10)$$

$$x = -1 \quad (11)$$

$$x_{1,2} = 1, 3 \quad (12)$$

$$x_1 = 0, x_2 = -2, x_3 = 3.06, x_4 = -5.06 \quad (13)$$

$$x_1 = 0, x_2 = -2 \quad (14)$$

(15) אין פתרונות.

$$x = \pm \sqrt{\frac{3}{7}} \quad (16)$$

$$x = \frac{1}{2}, 1, \frac{3}{2}, 3 \quad (17)$$

$$x = -1, 2 \quad (18)$$

$$x = 3, -1 \quad (19)$$

$$x = \pm 1, 4, 6 \quad (20)$$

משוואות עם פרמטרים:

סיכום כללי:

משוואה עם פרמטר הינה משוואה שמכילה שני סוגים של גדלים – משתנים ופרמטרים. את המשתנים מקובל לסמן באותיות x , y , z ואת הפרמטרים מסמנים בשאר האותיות. פתרון המשוואה יתקבל ע"י בידוד המשתנה כך שיבוטא באמצעות הפרמטרים שבמשוואה.

למשל פתרון המשוואה: $mx=4$ (כאשר x הוא הנעלם ו- m הוא פרמטר) הוא $x = \frac{4}{m}$

אשר מבוטא באמצעות הפרמטר m .

בכתיבת פתרון של משוואה עם פרמטרים יש לציין את תחום ההגדרה של הפרמטר עבורו הפתרון הוא בעל משמעות. בדוגמא הנ"ל תחום ההגדרה הוא $m \neq 0$.

שאלות:

(1) פתור את המשוואות הבאות:

$$\text{א. } 3x - b = (b + 1)x - 6 \quad \text{ב. } \frac{1}{3}(a - 3x) = \frac{1}{a}(ax - 3)$$

$$\text{ג. } (x - 2a)(x - 2b) = x^2 - 2(a^2 + b^2) \quad \text{ד. } \frac{m+1}{x-1} = \frac{m-1}{x+1}$$

$$\text{ה. } \frac{x}{a^2 - a} - \frac{1}{2a} = \frac{ax + x}{2a^3 - 4a^2 + 2a} - \frac{2}{a^3 - 2a^2 + a}$$

(2) פתור את מערכות המשוואות הבאות:

$$\text{א. } \begin{cases} x + my = 1 \\ x + y = m \end{cases} \quad \text{ב. } \begin{cases} ax + y = 2 \\ x + ay = 4 \end{cases}$$

$$\text{ג. } \begin{cases} \frac{x}{m} + y = m \\ x - m^2 y = 1 \end{cases} \quad \text{ד. } \begin{cases} (m-1)x - (2m+3)y = 5 \\ (m+2)x - (2m-1)y = 10m \end{cases}$$

$$\text{ה. } \begin{cases} (2a+b)x - (2a-b)y = 8ab \\ (2a-b)x + (2a+b)y = 8a^2 - 2b^2 \end{cases}$$

(3) פתור את המשוואות הריבועיות הבאות:

$$\text{א. } x^2 - 2mx + m^2 - 1 = 0 \quad \text{ב. } x^2 - 2x + 4a = a^2 + 3$$

$$\text{ג. } x^2 + m(x+10) = 2m^2 - 5x \quad \text{ד. } \frac{1}{a-x} + \frac{1}{a} + \frac{1}{a+x} = 0$$

$$\text{ה. } (m^2 + 1)x^2 - m^2x - 1 = 0 \quad \text{ו. } \frac{a}{x} + \frac{1}{b} = \frac{x}{a} + b$$

$$\text{ז. } x + \frac{1}{x} = \frac{a-b}{a+b} + \frac{a+b}{a-b}$$

תשובות סופיות:

$$\text{(1) א. } x = \frac{b-6}{2-b}, b \neq 2 \quad \text{ב. } x = \frac{a^2+9}{6a}, a \neq 0 \quad \text{ג. } x = a+b \quad \text{ד. } x = -m \quad \text{ה. } x = a+1$$

$$\text{(2) א. } m \neq 1, (m+1, -1) \quad \text{ב. } a \neq \pm 1, \left(\frac{2a-4}{a^2-1}, \frac{4a-2}{a^2-1} \right)$$

$$\text{ג. } m \neq 0-1, \left(m^2 - m + 1, \frac{m-1}{m} \right) \quad \text{ד. } m \neq 1, -2, (2m+1, m-2)$$

$$\text{ה. } b \neq \pm 2a, (2a+b, 2a-b)$$

$$\text{(3) א. } x = m+1, m-1 \quad \text{ב. } x = a-1, 3-a \quad \text{ג. } x = m-5, -2m$$

$$\text{ד. } a \neq 0, x \neq \pm a, x = \pm a\sqrt{3} \quad \text{ה. } x = 1, -\frac{1}{m^2+1}$$

$$\text{ו. } a, b \neq 0, x = \frac{a}{b}, -ab \quad \text{ז. } a \neq \pm b, x = \frac{a+b}{a-b}, \frac{a-b}{a+b}$$

משוואות עם שורשים:

סיכום כללי:

פתרון משוואה מהצורה: $\sqrt{x} = a$ יתקבל ע"י העלאה בריבוע של שני אגפי המשוואה באופן הבא: $x = a^2 \rightarrow (\sqrt{x})^2 = (a)^2$.

הערות:

- (1) יש לזכור בעת העלאה בריבוע של שני אגפי המשוואה יש לבדוק את כל הפתרונות המתקבלים ע"י הצבתם במשוואה המקורית.
- (2) למשוואה מהצורה $\sqrt{x} = a$ שבה $a < 0$ אין פתרון.
- (3) יש לסדר תחילה משוואות שבהן הביטוי עם שורש אינו מבודד.
- (4) במשוואות שבהן יותר מביטוי אחד עם שורש יש לבודד תחילה את אחד הביטויים, להעלות בריבוע ולאחר מכן לחזור על התהליך ולבצע העלאה בריבוע פעם נוספת.

שאלות:

פתור את המשוואות הבאות:

- | | |
|--|---|
| $\sqrt{x+2} = x$ (2) | $\sqrt{2x+5} = 7$ (1) |
| $\sqrt{2x+7} + 4 = x$ (4) | $\sqrt{3x+1} + x = 13$ (3) |
| $\sqrt{10x+6} + 9 = x$ (6) | $\sqrt{x-1} + 3 = x$ (5) |
| $\sqrt{24-x} + 3 = 2x$ (8) | $\sqrt{x+6} - 2 = 2x$ (7) |
| $2x = 16 - 3\sqrt{x-1}$ (10) | $\sqrt{x+16} + 4 = 2x$ (9) |
| $\sqrt{x^2 - 5x + 12} = 2\sqrt{6-x}$ (12) | $\sqrt{3x+5} = \sqrt{x+17}$ (11) |
| $\sqrt{2x-1} + 3 = \sqrt{7x+1}$ (14) | $\sqrt{x-1} \cdot \sqrt{2x-5} = \sqrt{11-x^2}$ (13) |
| $\sqrt{2x-3} + \sqrt{3-x} = 2$ (16) | $\sqrt{9x-8} - 3\sqrt{x+4} = -2$ (15) |
| $\sqrt{2x-2} + \sqrt{5x-4} = \sqrt{3x-2}$ (18) | $\sqrt{x+3} + \sqrt{x-2} = \sqrt{4x+1}$ (17) |
| | $3\sqrt{x-1} + \sqrt{2x-3} = 2\sqrt{x+2}$ (19) |

תשובות סופיות:

- | | |
|---------------------------|---------------|
| $x = 2$ (2 | $x = 22$ (1 |
| $x = 9$ (4 | $x = 8$ (3 |
| $x = 25$ (6 | $x = 5$ (5 |
| $x = 3.75$ (8 | $x = 0.25$ (7 |
| $x = 5$ (10 | $x = 4.25$ (9 |
| $x = 4, -3$ (12 | $x = 6$ (11 |
| $x = 5$ (14 | $x = 3$ (13 |
| $x = 2, 2\frac{8}{9}$ (16 | $x = 12$ (15 |
| $x = 1$ (18 | $x = 6$ (17 |
| | $x = 2$ (19 |

משוואות עם ערך מוחלט:

סיכום כללי:

הגדרה:

ערך מוחלט הינו המרחק של מספר מ-0 ומוגדר באופן הבא: $|x| = \begin{cases} x & x \geq 0 \\ -x & x < 0 \end{cases}$.

משוואה עם ערך מוחלט:

משוואה עם ערך מוחלט היא מהצורה: $|x| = a$.

כדי לפתור משוואה עם ערכים מוחלטים יש למצוא את נקודות האפס של כל ערך מוחלט (קרי: הנקודות בהן הביטוי שבתוך הערך המוחלט מתאפס) ולפצל את המשוואה הנתונה לתחומים עבור כל תחום.

שאלות:

פתור את המשוואות הבאות:

$$|3x+14|=7 \quad (1) \qquad |3x-24|=x \quad (2)$$

$$|12-x|=3x \quad (3) \qquad 2x-|8-x|=10 \quad (4)$$

$$|4x-5|=|2x+13| \quad (5) \qquad |14-3x|=2|x+5| \quad (6)$$

$$|x|+7=|2x| \quad (7) \qquad |x+2|+6=|2x-4| \quad (8)$$

$$|x+2|+|2x-6|=|4x+8| \quad (9) \qquad |10-3x|-|x+4|=|2x-6| \quad (10)$$

תשובות סופיות:

$$\begin{array}{llll} x = -\frac{7}{3}, -7 & (1) & x = 6, 12 & (2) \\ x = 9, -1\frac{1}{3} & (5) & x = 24, \frac{4}{5} & (6) \\ x = 0, -12 & (9) & x = 0 & (10) \\ x = 6 & (4) & x = 3 & (3) \\ x = 12, -1\frac{1}{3} & (8) & x = \pm 7 & (7) \end{array}$$

מערכת משוואות ממעלה שנייה:

סיכום כללי:

מערכת משוואות ריבועיות מיוחסת למערכת של שתי משוואות (לפחות) שאחת מהן מכילה את אחד מהנעלמים בריבוע. למערכת משוואות ריבועיות יכולים להתקבל עד 4 פתרונות שונים. יש לפתור את המערכת לפי הטכניקות הרגילות של בידוד והצבה או השוואת מקדמים.

שאלות:

פתור את מערכות המשוואות הבאות:

$$\begin{cases} 2x^2 + y^2 = 36 \\ x^2 + 3y = 10 \end{cases} \quad (2)$$

$$\begin{cases} x^2 + y^2 = 20 \\ x + y = 6 \end{cases} \quad (1)$$

$$\begin{cases} x^2 - 2y^2 = 17 \\ xy = -10 \end{cases} \quad (4)$$

$$\begin{cases} 3x^2 + 4y^2 = 16 \\ 5x^2 - 3y^2 = 17 \end{cases} \quad (3)$$

$$\begin{cases} x^2 - 2xy + 8y^2 = 8 \\ 3xy - 2y^2 = 4 \end{cases} \quad (6)$$

$$\begin{cases} x^2 - xy - 20y^2 = 0 \\ x + 6y = 1 \end{cases} \quad (5)$$

$$\begin{cases} 16x^2 - y^2 = 391 \\ 4x - y = 23 \end{cases} \quad (8)$$

$$\begin{cases} x^2 - y^2 = 33 \\ x + y = 11 \end{cases} \quad (7)$$

$$\begin{cases} \frac{3}{x} + \frac{1}{y} = 5 \\ \frac{4}{y} - \frac{1}{x} = -19 \end{cases} \quad (10)$$

$$\begin{cases} 4xy + x = -15 \\ \frac{3}{y} - 2x = 16 \end{cases} \quad (9)$$

$$\begin{cases} xy = 24 \\ (y-x)^2 - 7(y-x) + 10 = 0 \end{cases} \quad (12)$$

$$\begin{cases} \frac{3}{x} + \frac{5}{y} = 21 \\ \frac{8}{x} - \frac{1}{y} = 13 \end{cases} \quad (11)$$

$$\begin{cases} \sqrt{\frac{x}{y}} + \sqrt{\frac{y}{x}} = \frac{10}{3} \\ x^2 + y^2 = 9xy + 25 \end{cases} \quad (14)$$

$$\begin{cases} x^2y - xy^2 = 84 \\ x^2 - 2xy + y^2 + 5x - 5y = 24 \end{cases} \quad (13)$$

תשובות סופיות:

- | | |
|---|--|
| $(\pm 4, -2)$ (2) | $(2, 4), (4, 2)$ (1) |
| $(5, -2), (-5, 2)$ (4) | $(\pm 2, \pm 1)$ (3) |
| $\left(3, \frac{1}{2}\right), \left(-3, -\frac{1}{2}\right), (2, 1), (-2, -1)$ (6) | $\left(-2, \frac{1}{2}\right), \left(\frac{5}{11}, \frac{1}{11}\right)$ (5) |
| $(5, -3)$ (8) | $(7, 4)$ (7) |
| $\left(\frac{1}{3}, -\frac{1}{4}\right)$ (10) | $\left(-5, \frac{1}{2}\right), \left(-24, -\frac{3}{32}\right)$ (9) |
| $(4, 6), (-6, -4), (3, 8), (-8, -3)$ (12) | $\left(\frac{1}{2}, \frac{1}{3}\right)$ (11) |
| | $(-1.65, 6.35), (-6.35, 1.65), (7, 4), (-4, -7)$ (13) |
| | $(5, 45), (-5, -45), (45, 5), (-45, -5)$ (14) |

משוואות מסכמות מתקדמות:

סיכום כללי:

תזכורת מהירה:

- משוואה דו-ריבועית יכולה להופיע בכל תצורה (עם שורשים, עם ערכים מוחלטים וכו'). העיקרון הוא זיהוי תבנית של הנעלם אשר חוזרת על עצמה לאורך המשוואה. סימון התבנית במשתנה זמני ופתרון עבור משתנה זה תוביל למשוואה מוגדרת ופתירה. לאחר מכן יש להחזיר את ההצבה לתבנית של המשתנה המקורי ולמצוא את ערכיו.
- דרך הפתרון של משוואה עם שורשים היא ע"י בידוד השורש והעלאה בריבוע. במידה ויש יותר משורש אחד המופיעים בחיבור/חיסור יש לבצע את הפעולה פעמיים. חשוב לוודא נכונות של כל הפתרונות המתקבלים ע"י הצבה במשוואה המקורית לפני ההעלאות בריבוע.
- דרך הפתרון של משוואה עם ערכים מוחלטים היא ע"י פיצול המשוואה לתחומים לפי סימני הערך המוחלט. זאת יש לבצע ע"י איפוס הביטוי שבכל ערך מוחלט ומציאת ערכי הנעלם המקיימים זאת, חלוקת המשוואה לתחומים מתאימים ופתרונה בכל תחום. יש לזכור לבדוק האם הפתרון המתקבל נמצא בתחום הפתרון – במידה וכן הוא פתרון של המשוואה, אחרת הוא נפסל.
- משוואה עם פרמטרים נפתרת בצורה רגילה (התייחסות לפרמטרים כאל קבועים מספריים) כאשר יש לציין את תחומי ההגדרה שלהם. יש לבדוק פתרונות שמתקבלים המבוטאים באמצעות הפרמטרים במידה וקיימת הגבלת תחום הגדרה במשוואה.

שאלות:

פתור את המשוואות הבאות:

$$\begin{array}{ll}
 x^2 + 5x - \sqrt{x^2 + 5x} - 30 = 0 & \text{(2)} & x + \sqrt{x+6} - 6 = 0 & \text{(1)} \\
 2x^2 + 6x - \sqrt{x^2 + 3x + 5} = 5 & \text{(4)} & 4x^2 + 16x - 4\sqrt{x^2 + 4x} - 3 = 0 & \text{(3)} \\
 x^2 - \sqrt{6x^2 - 15} = 1 & \text{(6)} & x^2 - \sqrt{16x^2 + 48} + 7 = 0 & \text{(5)} \\
 \frac{\sqrt{x^2 + 4x - 12}}{\sqrt{x-1}} + \sqrt{x+5} = \frac{7}{\sqrt{x-1}} & \text{(8)} & \frac{x^2}{\sqrt{3x-2}} - \sqrt{3x-2} = 1-x & \text{(7)} \\
 \sqrt{x^2 - 3x + 2} + \sqrt{x+3} = \sqrt{x-2} + \sqrt{x^2 + 2x - 3} & \text{(9)} & & \\
 \sqrt{x + \sqrt{14x - 49}} + \sqrt{x - \sqrt{14x - 49}} = \sqrt{14} & \text{(10)} & & \\
 \sqrt{x+6+6\sqrt{x-3}} - \sqrt{x+6-6\sqrt{x-3}} = 2 & \text{(11)} & & \\
 \frac{4}{x + \sqrt{x^2 + x}} - \frac{1}{x - \sqrt{x^2 + x}} = \frac{3}{x} & \text{(12)} & &
 \end{array}$$

פתור את המשוואות הבאות עבור $a > 0$:

$$x^2 + ax - 2a\sqrt{3x^2 + 3ax - 9a^2} = 0 \quad \text{(14)} \quad x^2 + ax - 2a\sqrt{x^2 + ax - a^2} = 0 \quad \text{(13)}$$

פתור את המשוואות הבאות:

$$\begin{array}{ll}
 |4 - |5 - x|| = |x + 3| & \text{(16)} & |3 - |2 - x| + |x|| = 1 & \text{(15)} \\
 \sqrt{25 + |16x^2 - 25|} = 4 + 4|x+1| & \text{(18)} & \left| \frac{x + |3 - x|}{x + 2} \right| = 18 & \text{(17)} \\
 & & \frac{x^3 - 5x}{\sqrt{2x^2 - 4x - 1} - |x| + 2} = 0 & \text{(19)}
 \end{array}$$

$$\frac{|x+2|}{|x|+2} = |2-x|+2 : \text{הראה כי אין פתרון למשוואה הבאה:} \quad \text{(20)}$$

תשובות סופיות:

$$x = 3 \quad (1)$$

$$x_1 = 4, x_2 = -9 \quad (2)$$

$$x_1 = 0.5, x_2 = -4.5 \quad (3)$$

$$x_1 = 1, x_2 = -4 \quad (4)$$

$$x_{1,2} = \pm 1 \quad (5)$$

$$x_{1,2} = \pm 2 \quad (6)$$

$$. x = 1 \quad (7)$$

$$. x = 3 \quad (8)$$

$$. x = 2 \quad (9)$$

$$. 3.5 \leq x \leq 7 \quad (10)$$

$$. x = 4 \quad (11)$$

$$. x = 1, x = \frac{9}{16} \quad (12)$$

$$x_1 = -2a, x_2 = a \quad (13)$$

$$x_1 = -2a, x_2 = 3a \quad (14)$$

$$. x \leq 0 \quad (15)$$

$$. x = -1 \quad (16)$$

$$. x = -\frac{39}{18}, -\frac{33}{18} \quad (17)$$

$$. x \leq \frac{5}{4}, x = -\frac{1}{4} \quad (18)$$

$$. x = -\sqrt{5} \quad (19)$$

$$. שאלת הוכחה. \quad (20)$$

ביטויים ומשוואות ממעלה שלישית:

סיכום כללי:

נוסחאות הכפל המקוצר ממעלה שלישית:

$$(a \pm b)^3 = a^3 \pm 3a^2b + 3ab^2 \pm b^3$$

$$a^3 \pm b^3 = (a \pm b)(a^2 \mp ab + b^2)$$

שאלות:

פישוט ביטויים:

פשט את הביטויים הבאים:

$$(2y+5)^3 \quad (2)$$

$$(x-3)^3 \quad (1)$$

$$8y^3 + 343 \quad (4)$$

$$8x^3 - 1 \quad (3)$$

$$x^3y^6z^9 - 1 \quad (6)$$

$$a^6 - 27 \quad (5)$$

$$64mn^4 - 8m^4n^7 \quad (8)$$

$$11 + 88x^{12} \quad (7)$$

$$\frac{x^3 + 64}{x^2 + 4x} \quad (10)$$

$$\frac{x^2 + 4x + 4}{x^3 + 6x^2 + 12x + 8} \quad (9)$$

משוואות בנעלם אחד עם נוסחאות הכפל המקוצר:

פתור את המשוואות הבאות:

$$125x^3 = 1 - 15x + 75x^2 \quad (12)$$

$$x^3 - 12x^2 + 48x - 64 = 0 \quad (11)$$

$$x^3 - 7x - 6 = 0 \quad (14)$$

$$x^3 + x - 30 = 0 \quad (13)$$

משוואות בנעלם אחד עם פירוקים שונים:

פתור את המשוואות הבאות:

$$2x^3 + 5x^2 - 2x - 5 = 0 \quad (16)$$

$$2x^3 - 7x^2 + 7x - 2 = 0 \quad (15)$$

מערכת משוואות:

$$\begin{cases} x^3 + y^3 = 243 \\ x + y = 9 \end{cases} \quad \text{(17) פתור את מערכת המשוואות הבאה:}$$

$$\begin{cases} x^3 - y^3 = 91 \\ x^2y - xy^2 = 30 \end{cases} \quad \text{(18) פתור את מערכת המשוואות הבאה:}$$

תשובות סופיות:

$$8y^3 + 60y^2 + 150y + 125 \quad \text{(10)}$$

$$(2y + 7)(4y^2 - 17y + 49) \quad \text{(11)}$$

$$(xy^2z^3 - 1)(x^2y^4z^6 + xy^2z^3 + 1) \quad \text{(12)}$$

$$8mn^4(2 - mn)(4 + 2mn + m^2n^2) \quad \text{(13)}$$

$$\frac{x^2 - 4x + 16}{x} \quad \text{(14)}$$

$$x = \frac{1}{2} \quad \text{(15)}$$

$$x_{1,2,3} = -2, -1, 3 \quad \text{(16)}$$

$$x_{1,2,3} = -2.5, -1, 1 \quad \text{(17)}$$

$$(-5, -6), (6, 5) \quad \text{(18)}$$

$$x^3 - 9x + 27x - 27 \quad \text{(1)}$$

$$(2x - 1)(4x^2 + 2x + 1) \quad \text{(2)}$$

$$(a^2 - 3)(a^4 + 3a^2 + 9) \quad \text{(3)}$$

$$8(1 + 2x^4)(1 - 2x^4 + 4x^8) \quad \text{(4)}$$

$$\frac{1}{x + 2} \quad \text{(5)}$$

$$x = 4 \quad \text{(6)}$$

$$x = 3 \quad \text{(7)}$$

$$x_{1,2,3} = \frac{1}{2}, 1, 2 \quad \text{(8)}$$

$$(3, 6), (6, 3) \quad \text{(9)}$$

מכינה במתמטיקה להנדסת מכונות

פרק 4 - אי שוויונים אלגבריים

תוכן העניינים

- 79 1. אי שוויונים ממעלה ראשונה
- 81 2. אי שוויונים ממעלה שנייה
- 82 3. אי שוויונים ממעלה שלישית
- 83 4. אי שוויונים עם מנה
- 85 5. אי שוויונים כפולים מערכות וגם ואו
- 86 6. שאלות מסכמות
- 88 7. אי שוויונים עם שורשים
- 90 8. מציאת תחום הגדרה
- 92 9. אי שוויונים עם ערך מוחלט

אי-שוויונים ממעלה ראשונה:

סיכום כללי:

פעולות המותרות לביצוע בפתרון אי-שוויון:

- לחבר או לחסר כל מספר או ביטוי.
- לכפול או לחלק בכל מספר או ביטוי חיובי.
- לכפול או לחלק בכל מספר או ביטוי שלילי תוך הפיכת סימן אי-השוויון.
- להעלות בחזקה אי זוגית.
- להעלות בחזקה זוגית אם שני אגפי אי-השוויון אינם שליליים.

פעולות אסורות לביצוע בפתרון אי-שוויון:

- לכפול או לחלק בביטוי שלא יודעים את סימנו.
- להעלות בחזקה זוגית כשיש אגף שלילי.

שאלות:

פתור את אי-השוויונים הבאים:

$6x > 2(3x-1)$ (2)	$45x - 26 > 109$ (1)
$(x-2)^2 + 4 < (x+2)^2 + 20$ (4)	$2(x-5) \geq \frac{1}{2}(4x+6)$ (3)
$4(6x-8) < 8(3x-4)$ (6)	$\frac{8x-4}{2} < \frac{9(x+1)}{3}$ (5)
$\frac{7-x}{10} - \frac{3x-1}{5} + \frac{x+4}{3} < 7$ (8)	$\frac{x-6}{3} - \frac{x-4}{4} \geq 12-x$ (7)

תשובות סופיות:

$$x > 3 \quad (1)$$

$$x \text{ כל} \quad (2)$$

$$x \text{ אף} \quad (3)$$

$$x > -2 \quad (4)$$

$$x < 5 \quad (5)$$

$$x \text{ אף} \quad (6)$$

$$x \geq 12 \quad (7)$$

$$x > -13 \quad (8)$$

אי-שוויונים ממעלה שנייה:

סיכום כללי:

אי שוויון ריבועי הוא מהצורה: $ax^2 + bx + c \begin{matrix} > \\ < \end{matrix} 0$ כאשר $a \neq 0$.

כדי לפתור אי שוויון ריבועי יש למצוא את נקודות האפס של הביטוי הריבועי ולאחר מכן למצוא את תחום ההצבה עבורו הביטוי מקיים את אי השוויון עצמו.

שאלות:

פתור את אי-השוויונים הבאים:

- | | |
|-------------------------------|--|
| $x^2 - 12x > -32$ (2) | $x^2 < 144$ (1) |
| $(x+2)(x+4) < 35$ (4) | $(x+2)(x+5) < 0$ (3) |
| $(x-3)(x-7) \geq 8x - 56$ (6) | $-x^2 + 13x + 30 < 0$ (5) |
| $(5x+6)^2 \leq 4(x-3)^2$ (8) | $(x-5)^2 + x(x+2) < 89$ (7) |
| $x^2 - 10x + 25 > 0$ (10) | $-3x^2 + 12x > 0$ (9) |
| $2x^2 + 2x + 24 \geq 0$ (12) | $(x-3)^2 > (x-1)(x+6) - x^2 - 3x$ (11) |

תשובות סופיות:

- | | |
|---------------------------|----------------------|
| $x < 4, x > 8$ (2) | $-12 < x < 12$ (1) |
| $-9 < x < 3$ (4) | $-5 < x < -2$ (3) |
| $x \leq 7, x \geq 11$ (6) | $x < -2, x > 15$ (5) |
| $-4 \leq x \leq 0$ (8) | $-4 < x < 8$ (7) |
| $x > 5, x < 5$ (10) | $0 < x < 4$ (9) |
| x כל (12) | $x < 3, x > 5$ (11) |

אי-שוויונים ממעלה שלישית:

סיכום כללי:

אי שוויונים ממעלה גבוהה מיוחסים לכאלה שניתן לכתוב אותם בצורה של פולינומים, כגון: $x^4 + 2x^2 + 1 < 0$, $x^3 - 4x^2 + 4x + 1 > 0$. וכי.
 בפועל נפתור אותם ע"י פירוק לגורמים ומציאת נקודות האפס של כל גורם.
 לאחר מכן נבדוק את כל אחד מתחומי המספרים המתקבלים עבור הנעלם ונראה באלו מהם מתקבל פסוק אמת.

שאלות:

פתור את אי-השוויונים הבאים:

- | | |
|--------------------------------------|------------------------------------|
| $x(x^2 + x + 1) > 0$ (2) | $(x-1)(x-2)(x-3) > 0$ (1) |
| $x^3 - 25x \geq 0$ (4) | $(-2x^2 - 3x + 2)(x+1) \leq 0$ (3) |
| $(x^2 + 8x + 20)(3x - 5) \leq 0$ (6) | $(x^2 + 3x + 5)(x - 2) > 0$ (5) |
| $x^3 - 6x^2 + 9x \leq 0$ (8) | $(x^2 - x - 6)(x - 1) < 0$ (7) |
| $(x-2)(x-4)(x-1) < 0$ (10) | $(x^2 + 6)(x+3) > 0$ (9) |

תשובות סופיות:

- | | |
|----------------------------------|---|
| $x > 0$ (2) | $1 < x < 2, x > 3$ (1) |
| $-5 \leq x \leq 0, x \geq 5$ (4) | $-2 \leq x \leq -1, x \geq \frac{1}{2}$ (3) |
| $x \leq 1\frac{2}{3}$ (6) | $x > 2$ (5) |
| $x \leq 0, x = 3$ (8) | $x < -2, 1 < x < 3$ (7) |
| $x < 1, 2 < x < 4$ (10) | $x > -3$ (9) |

אי-שוויונים עם מנה:

סיכום כללי:

אי שוויון מהצורה: $\frac{f(x)}{g(x)} > 0$ או $\frac{f(x)}{g(x)} < 0$ נקרא אי-שוויון עם מנה, בו $f(x)$

ו- $g(x)$ הם פולינומים כלשהם.

למשל: $\frac{2x+4}{x^2-3x+4} < 0$ בו: $f(x) = 2x+4$ ו- $g(x) = x^2-3x+4$.

כדי לפתור אי שוויון עם מנה נמצא את נקודות האפס של $f(x)$ ושל $g(x)$ ונציב מספרים בתחומים המתקבלים. אלו שיתנו פסוק אמת יהוו את פתרון אי השוויון.

הערות:

- ניתן לבצע כפל של המכנה בריבוע בכדי להעביר את אי השוויון לצורה של מכפלות.
- ניתן להעביר אי שוויון המכיל מספר מנות ומספרים שלמים לצורה הנ"ל ע"י פעולות אלגבריות מתאימות תחילה.

שאלות:

פתור את אי-השוויונים הבאים:

$\frac{x-1}{3x+2} \geq -3$ (2)	$\frac{x-1}{x^2-9} > 0$ (1)
$\frac{x-3}{2x^2-10x+12} > 0$ (4)	$\frac{1}{x^2-16} > 0$ (3)
$\frac{1}{-3(x-1)} < 0$ (6)	$\frac{2x-1}{x-5} \leq 0$ (5)
$\frac{1}{x^2-5x+6} < 0$ (8)	$\frac{x-1}{x+2} \leq 1$ (7)
$\frac{1}{x^2-8x+12} \geq 0$ (10)	$\frac{x^2-7x+6}{-x^2+3x-7} \geq 0$ (9)

תשובות סופיות:

$$x < -\frac{2}{3}, x \geq -\frac{1}{2} \quad (2)$$

$$2 < x < 3, x > 3 \quad (4)$$

$$x > 1 \quad (6)$$

$$2 < x < 3 \quad (8)$$

$$x < 2, x > 6 \quad (10)$$

$$-3 < x < 1, x > 3 \quad (1)$$

$$x < -4, x > 4 \quad (3)$$

$$\frac{1}{2} \leq x < 5 \quad (5)$$

$$x > -2 \quad (7)$$

$$1 \leq x \leq 6 \quad (9)$$

אי-שוויונים כפולים - מערכת וגם:

סיכום כללי:

אי-שוויון כפול הוא צורה מקוצרת להציג שני אי-שוויונים אשר יש לפתור יחד (קרי: כמערכת יוגם!). למשל במקום לכתוב: $a < b$ וגם $b < c$, ניתן לכתוב: $a < b < c$. מכאן כי כדי לפתור אי שוויון כפול יש לפצל אותו תחילה לשני אי-שוויונים ולפתור כל אחד בנפרד. לאחר מכן יש לקחת את חיתוך הפתרונות.

שאלות:

פתור את אי-השוויונים הבאים:

$$0 < \frac{1}{x+4} < 2 \quad (2)$$

$$3 < x+1 < 5 \quad (1)$$

$$0 < \frac{8-3x}{5-2x} < 4 \quad (4)$$

$$-1 < \frac{x-1}{x+1} < 1 \quad (3)$$

$$6 < \frac{2x+10}{3} \leq \frac{7x-20}{5} \quad (6)$$

$$6x-38 \leq x-3 \leq 5x+7 \quad (5)$$

$$\frac{4x+5}{15} > \frac{3x-8}{5} + \frac{9-x}{3} > 11 \quad (8)$$

$$-1 \leq \frac{2x-6}{4} < \frac{x+2}{3} \quad (7)$$

תשובות סופיות:

$$x > -3\frac{1}{2} \quad (2)$$

$$2 < x < 4 \quad (1)$$

$$x < 2\frac{2}{5}, x > 2\frac{2}{3} \quad (4)$$

$$x > 0 \quad (3)$$

$$x \geq 10 \quad (6)$$

$$-2.5 \leq x \leq 7 \quad (5)$$

$$\emptyset \quad (8)$$

$$1 \leq x < 13 \quad (7)$$

שאלות מסכמות – אי-שוויונים:

שאלות:

פתור את אי-השוויונים הבאים:

$$x \leq -\frac{3}{4} \cap \{-2 < x \leq 5 \cup 0 < x < 8\} \quad (1)$$

$$\frac{(x-3)(x+4)}{2-x} \leq 0 \quad (3) \quad x(x+5) - 3x + 15 \leq 2x - 1 - x(4-x) \quad (2)$$

$$\frac{(2x-3)(x-12)}{(x+1)(4-x)} \geq 0 \quad (5) \quad \frac{(x-5)(3x+1)}{(2-x)(x+7)} < 0 \quad (4)$$

$$\frac{(x-6)^2(x+1)}{x-2} > 0 \quad (7) \quad x(x+3)(2x-5) < 0 \quad (6)$$

$$\frac{x-3}{x^2+2} > 0 \quad (9) \quad \frac{5-2x}{(x-8)^2} \leq 0 \quad (8)$$

$$\frac{x^2-6x+9}{x^3-x} > 0 \quad (11) \quad \frac{x^2-4x}{x^2+2x-3} > 0 \quad (10)$$

$$\frac{x}{x^2-4} + \frac{1}{x+2} < \frac{1}{x-2} \quad (13) \quad \frac{x-7}{x^2+x+3} > 0 \quad (12)$$

$$6 < 5x - x^2 \cap x^2 > 3x + 10 \quad (15) \quad \frac{2x^2}{x^2-6x+8} \geq \frac{x}{x-4} - \frac{x}{x-2} \quad (14)$$

$$1 < \frac{x-1}{x-4} \leq 2 \quad (17) \quad \frac{3}{x-1} - \frac{2}{x} > 0 \cup \frac{1}{x-3} < \frac{1}{1-x} \quad (16)$$

(18) לאלו ערכי x נמצאת הפונקציה $f(x) = \frac{x}{x-3}$ מעל הפונקציה $g(x) = \frac{x+1}{x+3}$?

תשובות סופיות:

- | | |
|---|--------------------------------------|
| $x \leq -4$ (2) | $-2 < x \leq -\frac{3}{4}$ (1) |
| $x < -7, -\frac{1}{3} < x < 2, x > 5$ (4) | $-4 \leq x < 2, 3 \leq x$ (3) |
| $x < -3, 0 < x < 2.5$ (6) | $-1 < x \leq 1.5, 4 < x \leq 12$ (5) |
| $2.5 \leq x < 8, x > 8$ (8) | $x < -1, 2 < x < 6, x > 6$ (7) |
| $x < -3, 0 < x < 1, x > 4$ (10) | $x > 3$ (9) |
| $x > 7$ (12) | $-1 < x < 0, 1 < x < 3, x > 3$ (11) |
| $x \leq 0, 1 \leq x < 2, x > 4$ (14) | $x < -2, 2 < x < 4$ (13) |
| $x \neq 1$ (16) | $x \neq 7$ (15) |
| $-3 < x < -\frac{3}{5}, x > 3$ (18) | $x \geq 7$ (17) |

אי שוויונים עם שורשים:

סיכום כללי:

מקרים בפתרון אי-שוויונות עם שורשים:

מקרה	אי השוויון	פתרון
$a \geq 0$	$\sqrt{f(x)} < a$	$0 \leq f(x) < a^2$
$a < 0$	$\sqrt{f(x)} < a$	אין פתרון
	$\sqrt{f(x)} > a$	כל x בת.ה. של $f(x)$

שאלות:

פתור את אי השוויונים הבאים:

$$\sqrt{2x-5} \geq 1 \quad (2)$$

$$\sqrt{x+3} < 7 \quad (1)$$

$$\sqrt{x^2+x-6} < x-3 \quad (4)$$

$$\sqrt{2x^2+5x-6} > 2-x \quad (3)$$

$$\sqrt{x^2+5x+6} - \sqrt{x^2-x+1} < 1 \quad (6)$$

$$\sqrt{x^2+3x+2} - 1 < \sqrt{x^2-x+1} \quad (5)$$

$$\frac{4}{\sqrt{2-x}} - \sqrt{2-x} < 2 \quad (8)$$

$$\frac{1-\sqrt{1-4x^2}}{x} > \frac{3}{2} \quad (7)$$

$$\sqrt{2-\sqrt{3+x}} < \sqrt{4+x} \quad (10)$$

$$\sqrt{\frac{1}{x^2} - \frac{3}{4}} < \frac{1}{x} - \frac{1}{2} \quad (9)$$

$$\sqrt{1+\frac{9}{x}} + 5\sqrt{\frac{x}{x+9}} \geq 4 \quad (12)$$

$$\sqrt{x+6} > \sqrt{x+1} + \sqrt{2x-5} \quad (11)$$

תשובות סופיות:

(1) $-3 \leq x < 46$

(2) $x \geq 3$

(3) $x < -10, x > 1$

(4) \emptyset

(5) $x \leq -2, -1 \leq x < \frac{-1 + \sqrt{13}}{6}$

(6) $x \leq -3, -2 \leq x < \frac{-13 + \sqrt{73}}{16}$

(7) $\frac{12}{25} < x \leq \frac{1}{2}$

(8) $x < 2\sqrt{5} - 4$

(9) $1 < x \leq \frac{2}{\sqrt{3}}$

(10) $שזה: -2.618 < x \leq 1 - \frac{3 + \sqrt{5}}{2} < x \leq 1$

(11) $2.5 \leq x < 3$

(12) $x < -9, x > 0$

תחום הגדרה:

שאלות:

1 מצא את תחום ההגדרה של הפונקציות הבאות:

א. $f(x) = \sqrt{3x-4}$	ב. $f(x) = \sqrt{x^2 - 5x - 6}$
ג. $f(x) = \sqrt{12x - x^2 - x^3}$	ד. $f(x) = \sqrt{\frac{x+5}{x^2-4}}$
ה. $f(x) = \frac{1}{\sqrt{x+2}-x}$	ו. $f(x) = \frac{\sqrt{3x^2-2x-1}}{2x-3}$

2 מצא את תחום ההגדרה של הפונקציות הבאות:

א. $f(x) = \sqrt{\sqrt{x+2}-3}$	ב. $f(x) = \frac{1}{x+\sqrt{x+6}}$
ג. $f(x) = \sqrt{\frac{2x^2+x-3}{x^2+5x+9}}$	ד. $f(x) = \frac{\sqrt{x^2+5x+6}}{x-1}$

3 תחום ההגדרה של הפונקציה: $f(x) = \sqrt{ax - x^2 - 4}$ הוא $1 \leq x \leq 4$. מצא את ערכו של הפרמטר a .

4 תחום ההגדרה של הפונקציה: $f(x) = \sqrt{\frac{x+a}{x-a}}$ הוא $x \leq -2$, $x > 2$. מצא את ערכו של הפרמטר a .

5 נתונה הפונקציה: $f(x) = \sqrt{\sqrt{x+6}-a}$, a פרמטר חיובי.

א. הבע באמצעות a את תחום הגדרתה.

ב. מגדירים פונקציה נוספת: $g(x) = \sqrt{\frac{2x}{x+5}}$.

ידוע כי תחום ההגדרה של שתי הפונקציות מכסה את כל ציר המספרים. מצא את תחום הערכים האפשרי של הפרמטר a .

תשובות סופיות:

- (1) א. $x \geq 1\frac{1}{3}$ ב. $x \leq -1, x \geq 6$ ג. $x \leq -4, 0 \leq x \leq 3$
- ד. $-5 \leq x < -2, x > 2$ ה. $-2 \leq x < 2, x > 2$ ו. $x \leq -\frac{1}{3}, 1 \leq x < \frac{3}{2}, x > \frac{3}{2}$
- (2) א. $x \geq 7$ ב. $-6 \leq x \neq -2$ ג. $x \leq -1\frac{1}{2}, x \geq 1$
- ד. $x \leq -3, -2 \leq x \neq 1$
- (3) $a = 5$
- (4) $a = 2$
- (5) א. $x \geq a^2 - 6$ ב. $0 < a \leq 1$

אי שוויונים עם ערך מוחלט:

סיכום כללי:

כללים לפתרון אי שוויון עם ערך מוחלט יחיד:

$ x > a$	$ x < a$	מקרה
$x < -a \cap x > a$	$-a < x < a$	פתרון

כללים לפתרון אי שוויון עם מספר ערכים מוחלטים:

- נמצא את הנקודות המאפסות כל ביטוי עם ערך מוחלט.
- מחלקים את אי השוויון לתחומים לפי נקודות האפס.
- פותרים את אי השוויון לכל תחום בנפרד.
- כותבים פתרון כללי (מערכת או) לכל התחומים יחדיו.

שאלות:

(1) פתור את אי-השוויונים הבאים:

א. $|x+2| < 3$ ב. $|2x+1| > 7$
 ג. $|6-2x| < x$ ד. $|2x+1|-3x > 4$

(2) פתור את אי-השוויונים הבאים:

א. $1 < |4-3x| < 7$ ב. $|2x+3| < 8 < |5-x|$

(3) פתור את אי-השוויונים הבאים:

א. $|x^2 + 6x - 4| < 12$ ב. $|x^2 + x - 10| > 3x - 2$
 ג. $|x^2 - 3x| < 4$ ד. $|6x^2 - 7x - 4| > 1$
 ה. $x^2 - 6|x| + 5 \leq 0$ ו. $x^2 - 6|x+1| - 1 > 0$

(4) פתור את אי-השוויונים הבאים:

ב. $|x+8| < 11 - |1-3x|$

א. $|x-3| + |2x+2| > 7$

ד. $|2x-6| + |x+5| > 14 - |1-x|$

ג. $|3-2x| - 11 > 4 - |6+x|$

ו. $|x+3| + |x^2 - 5x + 4| < 19$

ה. $|5+4x| - |3-x| + \left|4 - \frac{1}{2}x\right| \leq 22$

(5) פתור את אי-השוויונים הבאים:

ב. $1 \leq \left|\frac{x+2}{x-2}\right| \leq 2$

א. $\left|\frac{3x-1}{x-2}\right| \geq 3$

ד. $\left|\frac{x^2+3x+2}{x^2-3x+2}\right| > 5$

ג. $\frac{|x-6|+8x}{x-12} \leq 12$

(6) פתור את אי-השוויונים הבאים (ערך מוחלט ושורשים):

ב. $2 - \sqrt{1-x} \leq |x+2| - 3$

א. $\sqrt{x^2 - |x-12|} < x$

ד. $\frac{|x+2| - |x|}{\sqrt{4-x^3}} > 0$

ג. $\sqrt{|2x+1| - x - 1} \leq 4 - |3x|$

תשובות סופיות:

- (1) א. $-5 < x < 1$
 ג. $2 < x < 6$
- (2) א. $1\frac{2}{3} < x < 3\frac{2}{3}$ או $-1 < x < 1$
 ב. $-5\frac{1}{2} < x < -3$
- (3) א. $-2 < x < 2$ או $-8 < x < -4$
 ג. $-1 < x < 4$
- ה. $1 \leq x \leq 5$ או $-5 \leq x \leq -1$
- (4) א. $2 < x$ או $x < -2$
 ג. $4 < x$ או $x < -6$
 ה. $-7\frac{3}{7} \leq x \leq 4$
- (5) א. $\frac{7}{6} \leq x < 2$, $x > 2$
 ג. $x < 12$, $x \geq 46$
- (6) א. $x = -1$, $x \geq 3$, $x \neq 12$
 ג. $0 \leq x \leq 1$, $-1 \leq x \leq -\frac{2}{3}$
- ב. $3 < x$ או $x < -4$
 ד. $x < -1$
- ב. $-1 < x < 1$
 ד. $4 < x$ או $x < -1$
 ו. $-2 < x < 6$
- ב. $0 \leq x \leq \frac{2}{3}$, $x \geq 6$
- ד. $\frac{1}{2} < x < 1$, $1 < x < 2$, $2 < x \leq 4$
- ב. $x \leq \frac{-15 + \sqrt{33}}{2}$
 ד. $-1 < x < \sqrt[3]{4}$

מכינה במתמטיקה להנדסת מכונות

פרק 5 - חקירת משוואה ממעלה ראשונה

תוכן העניינים

1. פתרון משוואות ממעלה ראשונה עם פרמטר 95
2. חקירת משוואות ממעלה ראשונה 96
3. חקירה של מערכת שתי משוואות ממעלה ראשונה 99
4. חקירת משוואות ממעלה ראשונה עם שורשים 104
5. חקירת משוואות ממעלה ראשונה עם ערך מוחלט 105

פתרון משוואות ממעלה ראשונה עם פרמטר:

סיכום כללי:

שלבי עבודה:

- נפתור את המשוואה.
- נאתר את ערכי הפרמטר המאפשרים את המכנה בכל שלבי הפתרון.
- נבדוק לכל ערך כזה בנפרד כמה פתרונות יש למשוואה על ידי הצבתו במשוואה המקורית.

שאלות:

(1) פתרו את המשוואה: $kx + 6k = 2x + 3k^2$.

(2) פתרו את המשוואה: $a^2(x-1) = 3ax + 4(x-a)$.

(3) פתרו את מערכת המשוואות:
$$\begin{cases} 2kx + 5y = 2k^2 \\ 2x - y = -10 \end{cases}$$

(4) פתרו את מערכת המשוואות הבאה:
$$\begin{cases} bx - (1-2b)y = 1 \\ (2b+1)x + 3(by-1) = 0 \end{cases}$$

תשובות סופיות:

(1) $x = 3k \quad (k \neq 2)$

(2) $x = \frac{a}{a+1}$

(3) $(k-5, 2k)$

(4) $\left(\frac{2-b}{b(b+1)}, \frac{1}{b+1} \right), \quad b \neq 0, \pm 1$

חקירה של משוואה ממעלה ראשונה:

שאלות:

(1) נתונה המשוואה הבאה: $m^2(2x-1) = 9(x-1) - x(6+5m)$.

מצאו לאילו ערכי m יש למשוואה:

א. פתרון יחיד (ומצאו אותו).

ב. אינסוף פתרונות.

ג. אף פתרון.

(2) נתונה המשוואה: $k^2(5-2x) = 3(15-2kx)$.

א. מצאו לאילו ערכי k למשוואה:

i. פתרון יחיד.

ii. אף פתרון.

iii. אינסוף פתרונות.

ב. מצאו לאילו ערכי k פתרון המשוואה:

i. חיובי.

ii. מקיים את אי-השוויון: $2x-3 > x$.

(3) נתונה המשוואה: $\frac{mx}{m-2} = \frac{2m}{m-5} - \frac{6x}{m^2-7m+10}$.

מצאו לאילו ערכי m למשוואה:

א. פתרון יחיד.

ב. אף פתרון.

ג. אינסוף פתרונות.

(4) לפניכם המשוואה: $m \cdot \frac{x-1}{x} - \frac{m+6}{m} = \frac{-3}{x}$.

א. פתרו את המשוואה בהנחה שיש לה פתרון יחיד.

ב. מצאו עבור אלו ערכי m יש למשוואה:

i. פתרון יחיד.

ii. אינסוף פתרונות.

iii. אף פתרון.

ג. האם עבור ערכי ה- m הנותנים אינסוף פתרונות, כל x יהיה פתרון של המשוואה?

ד. עבור אלו ערכי m יהיה פתרון המשוואה גדול מ-2?

$$(5) \quad \text{נתונה המשוואה: } x(m^2 - 9) = 2(m(3x+1) + 1 - x)$$

- א. פתרו את המשוואה בהנחה שיש לה פתרון יחיד.
 ב. חקרו את המשוואה ומצא עבור אלו ערכי m יש למשוואה:
 i. פתרון יחיד.
 ii. אינסוף פתרונות.
 iii. אף פתרון.
 ג. עבור איזה ערך של m פתרון המשוואה יהיה: $x = 2$?

$$(6) \quad \text{נתונה המשוואה: } \frac{5}{k-4} - \frac{kx}{3k+15} = \frac{k^2+29}{k^2+k-20}$$

- א. פתרו את המשוואה בהנחה שיש לה פתרון יחיד.
 ב. האם קיים ערך של k עבורו יש למשוואה אינסוף פתרונות?
 ג. עבור איזה ערך של k פתרון המשוואה הוא: -4 ?

$$(7) \quad \text{לפניכם המשוואה הבאה: } \frac{m^2x}{m-5} + \frac{2mx - m^2 + 1}{m-5} = 1$$

- מצאו עבור אלו ערכי m יש למשוואה:
 א. פתרון יחיד (ובטאו אותו באמצעות m).
 ב. אינסוף פתרונות.
 ג. אף פתרון.

$$(8) \quad \text{לפניכם המשוואה הבאה: } \frac{(m^2+1)x-4}{x-2} = m+1$$

- מצאו עבור אלו ערכי m יש למשוואה:
 א. פתרון יחיד (ובטאו אותו באמצעות m).
 ב. אינסוף פתרונות.
 ג. אף פתרון.

$$(9) \quad \text{לפניכם המשוואה הבאה: } \frac{5m-2}{mx-1} = -3$$

- מצאו עבור אלו ערכי m יש למשוואה:
 א. פתרון יחיד (ובטאו אותו באמצעות m).
 ב. אינסוף פתרונות.
 ג. אף פתרון.

$$(10) \text{ לפניכם המשוואה הבאה: } \frac{x+1}{x-m+1} = \frac{x}{x+m+2}$$

מצאו עבור אלו ערכי m יש למשוואה:

א. פתרון יחיד (ובטאו אותו באמצעות m).

ב. אינסוף פתרונות.

ג. אף פתרון.

תשובות סופיות:

$$(1) \text{ א. } \frac{1}{2}, m \neq -3, \frac{m-3}{2m-1} \text{ ב. } m = -3 \text{ ג. } m = \frac{1}{2}$$

$$(2) \text{ א. } 1, 3, k \neq 0, 3 \text{ ב. } k = 0 \text{ ג. } k = 3$$

$$\text{ב. } k > 0 \text{ או } k < -3 \text{ וגם } k \neq 3 \text{ ג. } 0 < k < 15 \text{ וגם } k \neq 3$$

$$(3) \text{ א. } 2, 3, 5, m \neq 2, 3, 5 \text{ ב. } m = 2, 3, 5 \text{ ג. אף } m$$

$$(4) \text{ א. } m \neq 3, x = \frac{1}{m+2} \text{ ב. פתרון יחיד: } m \neq 0, -2, 3, \text{ אף פתרון:}$$

$$\text{ג. לא, רק: } x \neq 0 \text{ ד. } m = 0, -2, \text{ אינסוף פתרונות: } m = 3$$

$$\text{ד. } -2 < m < -1.5$$

$$(5) \text{ א. } m \neq 7, -1, x = \frac{1}{m-7} \text{ ב. פתרון יחיד: } m \neq 7, -1, \text{ אף פתרון: } m = 7,$$

אינסוף פתרונות: $m = -1$.

$$(6) \text{ א. } -5, -4, 0, k \neq 0, 4, -5, x = \frac{3}{k} - 3 \text{ ב. אף } k \text{ ג. } k = -3$$

$$(7) \text{ א. } 5, -2, m \neq 0 \text{ ב. אף } m \text{ ג. } m = 0, -2, 5$$

$$(8) \text{ א. } \pm 1, m \neq 0 \text{ ב. } m = 1 \text{ ג. } m = 0, -1$$

$$(9) \text{ א. } \frac{2}{5}, m \neq 0 \text{ ב. אף } m \text{ ג. } m = \frac{2}{5}, 0$$

$$(10) \text{ א. } -\frac{1}{2}, -2, -1, m \neq 0 \text{ ב. אף } m \text{ ג. } m = 0, -1, -2, -\frac{1}{2}$$

חקירה של מערכת שתי משוואות ממעלה ראשונה:

סיכום כללי:

שלבי עבודה:

- נפתור את מערכת המשוואות.
- נאתר את ערכי הפרמטר המאפסים את המכנה בכל שלבי הפתרון.
- נבדוק לכל ערך כזה בנפרד כמה פתרונות יש למערכת על ידי הצבתו.

המשמעות הגרפית של חקירת מערכת משוואות ממעלה ראשונה:

בהינתן מערכת שתי משוואות מהצורה: $\begin{cases} a_1x + b_1y = c_1 \\ a_2x + b_2y = c_2 \end{cases}$ נאמר כי:

אם: $\frac{a_1}{a_2} \neq \frac{b_1}{b_2}$ אז הישרים נחתכים (כלומר למערכת פתרון יחיד).

אם: $\frac{a_1}{a_2} = \frac{b_1}{b_2} \neq \frac{c_1}{c_2}$ אז הישרים מקבילים (כלומר למערכת אף פתרון).

אם: $\frac{a_1}{a_2} = \frac{b_1}{b_2} = \frac{c_1}{c_2}$ אז הישרים מתלכדים (כלומר למערכת אינסוף פתרונות).

שאלות:

$$(1) \quad \begin{cases} x + 3ay = a \\ ax + 3y = 4a - 3 \end{cases} \quad \text{נתונה מערכת המשוואות:}$$

א. מצאו לאלו ערכי a למערכת המשוואות:

- פתרון יחיד.
- אף פתרון.
- אינסוף פתרונות.

ב. מצאו לאלו ערכי a נקודת החיתוך בין הישרים (המיוצגים על ידי המשוואות) נמצאת ברביע השלישי.

$$(2) \quad \begin{cases} (m+4)x + 5y = m+8 \\ x + my = m+2 \end{cases} \quad \text{נתונות מערכת המשוואות הבאה:}$$

א. פתרו את מערכת המשוואות בהנחה שיש לה פתרון יחיד.

ב. מצאו עבור אלו ערכי m יש למערכת:

i. פתרון יחיד.

ii. אינסוף פתרונות.

iii. אף פתרון.

ג. פתרון המערכת מייצג נקודה במערכת צירים.

הוכיחו כי נקודה זו נמצאת על הישר: $y(m-1) = 2(m-1)x + 4 - m$.

ד. עבור אלו ערכי m פתרון המערכת:

i. יהיה ברביע השני.

ii. יהיה מתחת לציר ה- x .

iii. יהיה מימין לציר ה- y .

$$(3) \quad \begin{cases} \frac{x^2}{4} - 2x + 3y = \left(k - \frac{x}{2}\right)^2 + 4 \\ x - 10 = k(1 - y) \end{cases} \quad \text{לפניכם מערכת המשוואות הבאה:}$$

א. מצאו לאלו ערכי k יש למערכת המשוואות:

i. פתרון יחיד.

ii. אינסוף פתרונות.

iii. אף פתרון.

ב. פתרו את מערכת המשוואות בהנחה שיש לה פתרון יחיד.

$$(4) \quad \begin{cases} k(x-1) = 1 - 2y \\ \frac{2x+3}{k} = 3 - y \end{cases} \quad \text{לפניכם מערכת המשוואות הבאה:}$$

א. מצאו לאלו ערכי k יש למערכת המשוואות:

i. פתרון יחיד.

ii. אינסוף פתרונות.

iii. אף פתרון.

ב. פתרו את מערכת המשוואות בהנחה שיש לה פתרון יחיד.

$$(5) \quad \begin{cases} k^2(1-x) = k + 9x + 12y \\ x = 1 - \frac{2(y+1)}{k} \end{cases} \quad \text{לפניכם מערכת המשוואות הבאה:}$$

א. מצאו לאלו ערכי k יש למערכת המשוואות:

i. פתרון יחיד.

ii. אינסוף פתרונות.

iii. אף פתרון.

ב. פתרו את מערכת המשוואות בהנחה שיש לה פתרון יחיד.

$$(6) \quad \begin{cases} (2-k)x - y = k \\ 3x + ky = -1 \end{cases} \quad \text{נתונה מערכת המשוואות הבאה:}$$

א. מצאו את הערך של k עבורו $(2,7)$ הוא פתרון של מערכת המשוואות.

ב. האם יש למשוואה פתרונות נוספים עבור הערך של k שמצאת בסעיף הקודם?

ג. האם קיים ערך של k עבורו למערכת המשוואות לא יהיו פתרונות כלל?

אם כן מצאו אותו.

$$(7) \quad \begin{cases} ax + b^2y = a^2 \\ 3x + by = 9b \end{cases} \quad \text{לפניכם מערכת המשוואות הבאה:}$$

א. פתרו את מערכת המשוואות בהנחה שיש לה פתרון יחיד.

ב. הראו שכאשר $a = 3b$ יש למערכת אינסוף פתרונות.

ג. עבור אלו ערכי a ו- b הפתרון היחיד של המערכת יהיה $(4,3)$?

$$(8) \quad \begin{cases} amx + y = m^2 \\ bx + my = -9m \end{cases} \quad \text{לפניך מערכת המשוואות הבאה:}$$

א. מצאו ערכי הפרמטרים a ו- b אם ידוע כי כאשר $m = 4$ פתרון המשוואה הוא $(4,0)$.

ב. הוכיחו את הטענות הבאות:

i. לכל ערך של m יש למערכת פתרון ממשי.

ii. פתרון המערכת תמיד יהיה $(m,0)$.

ג. העזרו בסעיף הקודם וקבע איזו משוואה מבין שלושת המשוואות

הבאות לא תכיל את הפתרון היחיד הנ"ל:

i. $7y + 2m = 2x$

ii. $my = 2x - m$

iii. $m(y - mx) = 2x - m(m^2 + 2)$

$$(9) \quad \begin{cases} x + (k-9)y = 8 \\ x - \frac{14y}{k} = 1 \end{cases} \quad \text{לפניך הישרים הבאים:}$$

- א. עבור אלו ערכי k הישרים הללו מקבילים?
 ב. הביעו באמצעות k את נקודת החיתוך של הישרים.
 ג. עבור איזה ערך של k נקודת החיתוך של הישרים תהיה על הישר: $y = x - 8$?

$$(10) \quad \text{לפניכם שני הישרים:} \quad \begin{cases} (k^2 + 6)x + ay = 15 \\ kx + ay = 3 \end{cases} \quad , a, k \text{ פרמטרים, } a \neq 0$$

- א. הוכיחו כי לכל ערך של k הישרים הללו נחתכים.
 ב. מצאו את a אם ידוע כי כאשר $k = 6$ נקודת החיתוך היא $\left(\frac{1}{3}, 1\right)$.
 ג. עבור איזה ערך של k נקודת החיתוך תהיה $(2, 1)$?
 ד. הראו כי נקודת החיתוך של הישרים נמצאת

$$\text{על גרף הפונקציה: } \frac{4y}{x} = k^2 - 5k + 6$$

תשובות סופיות:

(1) א. i. $a \neq \pm 1$ ii. $a = -1$ iii. $a = 1$ ג. $-1 < a < 0$

(2) א. $m \neq 1, -5, \left(\frac{m-2}{m-1}, \frac{m}{m-1}\right)$

ג. הוכחה.
ב. פתרון יחיד: $m \neq 1, -5$, אינסוף פתרונות: $m = -5$, אף פתרון: $m = 1$.

ד. i. $1 < m < 2$ ii. $0 < m < 1$ iii. $m \neq -5, m < 1, m > 2$

(3) א. i. $k \neq 3, -1$ ii. $k = 3$ iii. $k = -1$ ג. $\left(\frac{k^2+3k+10}{k+1}, \frac{8}{k+1}\right)$

(4) א. i. $k \neq 0, \pm 2$ ii. $k = 2$ iii. $k = 0, -2$ ג. $\left(\frac{k-3}{k+2}, \frac{3k+1}{k+2}\right)$

(5) א. i. $k \neq 0, 3$ ii. $k = 3$ iii. $k = 0$ ג. $\left(\frac{k-4}{k-3}, \frac{6-k}{2k-6}\right)$

(6) א. $k = -1$ ב. כן. ג. $k = 3$

(7) א. $\left(a+3b, -\frac{3a}{b}\right)$ ג. $a = -2, b = 2$

(8) א. $a = 1, b = -9$ ג. ii.

(9) א. $k = 2, 7$ ג. $k = 8$ ב. $\left(\frac{k^2-9k+112}{k^2-9k+14}, \frac{7k}{k^2-9k+14}\right)$

(10) א. הוכחה. ב. $a = 1$ ג. $k = 1$

חקירת משוואות ממעלה ראשונה עם שורשים:

שאלות:

(1) לפניכם המשוואה: $(m-1)x = \sqrt{m-1}$.

מצאו עבור אלו ערכי m יש למשוואה:

א. פתרון יחיד (ובטאו אותו באמצעות m).

ב. אינסוף פתרונות.

ג. אף פתרון.

(2) לפניכם המשוואה: $\frac{x-m}{\sqrt{3x-2}} + \sqrt{3x-2} = \frac{mx}{\sqrt{3x-2}}$.

מצאו עבור אלו ערכי m יש למשוואה:

א. פתרון יחיד (ובטאו אותו באמצעות m).

ב. אינסוף פתרונות.

ג. אף פתרון.

תשובות סופיות:

(1) א. פתרון יחיד: $m > 1$ והוא: $x = \frac{1}{\sqrt{m-1}}$. ב. $m = 1$. ג. $m < 1$.

(2) א. פתרון יחיד: $\frac{6}{5} < m < 4$ והוא: $x = \frac{m+2}{4-m}$. ב. אינסוף: \emptyset . ג. אף פתרון: $m \geq 4$, $m \leq \frac{6}{5}$.

חקירה של משוואות ממעלה ראשונה עם ערך מוחלט:

סיכום כללי:

$$\cdot |x| = \begin{cases} x & x \geq 0 \\ -x & x < 0 \end{cases} \text{ : הגדרת ערך מוחלט}$$

- משוואה מהצורה $|A|=|B|$: תפוצל לשתי משוואות: $A=B$ או $A=-B$. יש לחקור כל מקרה בנפרד ולאחד פתרונות.
- עבור משוואות המכילות ביטויים עם ערכים מוחלטים יש להפריד עבור כל מקרה לפי הגדרת הערך המוחלט. לבסוף יש לאחד פתרונות.
- למשוואה מהצורה $|x|=k$: (כאשר x הוא המשתנה ו- k הוא פרמטר) יתכנו:
 - שני פתרונות אם $k > 0$.
 - פתרון אחד (והוא $x=0$) אם $k=0$.
 - אף פתרון אם $k < 0$.

שאלות:

$$(1) \text{ חקור את המשוואה הבאה: } |x-2m|=|x+1|$$

$$(2) \text{ חקור את המשוואה הבאה: } |mx-3x|=|x-m|$$

$$(3) \text{ חקור את המשוואה הבאה: } \frac{mx^2}{|x|-1} - m|x| = 2m+1$$

$$(4) \text{ נתונה מערכת המשוואות הבאה: } \begin{cases} y+|x-2|=3 \\ |x+y|=m \end{cases}$$

מצא עבור אלו ערכי m יש למערכת:

- א. פתרון אחד בלבד.
- ב. שני פתרונות שונים.
- ג. אינסוף פתרונות.

תשובות סופיות:

(1) פתרון יחיד: $m \neq -\frac{1}{2}$ אף פתרון: \emptyset אינסוף: $m = -\frac{1}{2}$

(2) פתרון יחיד: $m = 0$ והוא $x = 0$ אף פתרון: \emptyset

שני פתרונות: $m \neq 0$ והם: $x_{1,2} = -\frac{2m}{3}, \frac{12m}{5}$

(3) עבור: $m = -\frac{1}{2}$ יש פתרון יחיד: $x = 0$

עבור: $m > 0, -\frac{1}{2} < m < 0, m < -1$ יש שני פתרונות.

עבור: $m = 0, -1 < m < -0.5$ אין פתרון כלל.

(4) א. $m = 0, m > 5$ ב. $0 < m < 5$ ג. $m = 5$

מכינה במתמטיקה להנדסת מכונות

פרק 6 - חקירת משוואה ממעלה שנייה

תוכן העניינים

107	1. פתרון משוואות ממעלה שנייה עם פרמטר
108	2. חקירה של משוואה ממעלה שנייה
117	3. חקירות עם קדקוד פרבולה

פתרון משוואות ממעלה שנייה עם פרמטר:

סיכום כללי:

משוואות מהצורה: $ax^2 + bx + c = 0$ המכילות פרמטר כלשהו, m , המגולם בתוך הביטויים של המקדמים a , b ו- c נקראות משוואות עם פרמטר. פתרון של משוואה עם פרמטר יתבצע באופן רגיל, אך יכול להכיל את הפרמטר.

שאלות:

(1) פתור את המשוואה: $x^2 + mx - 12m^2 = 0$.

(2) פתור את המשוואה: $2x^2 + 5m^2 = (11m + 1)x - 5m$.

תשובות סופיות:

(1) $x_1 = 3m$, $x_2 = -4m$

(2) $x_1 = 5m$, $x_2 = \frac{m+1}{2}$

חקירה של משוואה ממעלה שנייה:

סיכום כללי:

המשוואה הריבועית:

תהא המשוואה הריבועית: $ax^2 + bx + c = 0$ כאשר $a \neq 0$.
 נגדיר: $\Delta = b^2 - 4ac$ ונאמר כי:

- למשוואה יהיו שני פתרונות ממשיים שונים אם: $\Delta > 0$.
- למשוואה יהיה פתרון ממשי אחד אם: $\Delta = 0$.
- למשוואה לא יהיו שני פתרונות ממשיים כלל אם: $\Delta < 0$.

אם $a = 0$ תתקבל משוואה ליניארית מהצורה: $bx + c = 0$.

- למשוואה זו יהיה פתרון ממשי אחד אם $b \neq 0$.
- למשוואה לא יהיו פתרונות כלל אם: $b = 0$ ו- $c \neq 0$.

אם $b = 0$ וגם $c = 0$ למשוואה יהיו אינסוף פתרונות ממשיים.

הפונקציה הריבועית:

תהא הפונקציה הריבועית: $y = ax^2 + bx + c$ כאשר $a \neq 0$.
 נגדיר: $\Delta = b^2 - 4ac$ ונאמר כי לפונקציה נקודות חיתוך עם ציר ה- x באופן הבא:

- אם $a > 0$ תתקבל פרבולה ישרה (מחייכת):
 - עבור $\Delta > 0$ הפרבולה תחתוך את ציר ה- x בשתי נקודות שונות.
 - עבור $\Delta = 0$ הפרבולה תשיק לציר ה- x (חיתוך בנקודה אחת).
 - עבור $\Delta < 0$ הפרבולה תהיה מרחפת (ללא חיתוך עם ציר ה- x כלל).
- אם $a < 0$ תתקבל פרבולה הפוכה (עצובה):
 - עבור $\Delta > 0$ הפרבולה תחתוך את ציר ה- x בשתי נקודות שונות.
 - עבור $\Delta = 0$ הפרבולה תשיק לציר ה- x (חיתוך בנקודה אחת).
 - עבור $\Delta < 0$ הפרבולה תהיה מרחפת (ללא חיתוך עם ציר ה- x כלל).

- אם $a=0$ תתקבל פונקציה ליניארית: $y = bx + c$ ולה:

○ עבור $b > 0$ יתקבל ישר עולה החותך את ציר ה- x ב- $\left(-\frac{c}{b}, 0\right)$.

○ עבור $b < 0$ יתקבל יורד עולה החותך את ציר ה- x ב- $\left(-\frac{c}{b}, 0\right)$.

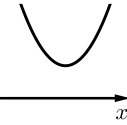
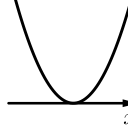
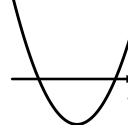
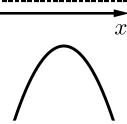
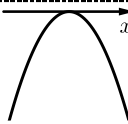
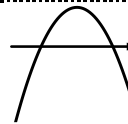
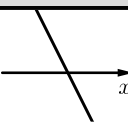
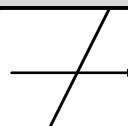



- אם $b=0$ יתקבל ישר $y=c$ וכעת:

○ אם $c > 0$ הישר כולו מעל לציר ה- x ומקביל לו.

○ אם $c < 0$ הישר כולו מתחת לציר ה- x ומקביל לו.

○ אם $c=0$ הישר מתלכד עם ציר ה- x .

ניתן לסכם את כל המקרים באופן הבא:

$\Delta < 0$	$\Delta = 0$	$\Delta > 0$	תנאים	פירוט מילולי	
			$a > 0$	תיאור גרפי של $y = ax^2 + bx + c$ עבור $a \neq 0$	
			$a < 0$		
		$b < 0$	$b > 0$		
				$a = 0$ $b \neq 0$	תיאור גרפי של כאשר $y = bx + c$ $a = 0$ ו- $b \neq 0$
$c = 0$	$c < 0$	$c > 0$			
			$a = 0$ $b = 0$	תיאור גרפי של $y = c$ כאשר $a = 0$ ו- $b = 0$	

שאלות:

(1) נתונה המשוואה: $(3-m)x^2 + 4mx - 2m = 0$, $(m \neq 3)$.

מצא לאלו ערכי m למשוואה:

א. שני פתרונות ממשיים שונים.

ב. פתרון ממשי אחד.

ג. אין פתרונות ממשיים כלל.

(2) נתונה הפונקציה: $y = 2mx^2 + mx - 1$.

מצא לאלו ערכי m הפונקציה אינה חותכת את ציר ה- x .

(3) נתונה הפונקציה: $y = (m^2 - 9)x^2 + (m + 3)x + 4$, $(m \neq \pm 3)$.

מצא לאלו ערכי m הפונקציה נמצאת מעל ציר ה- x לכל ערך של x .

(4) נתון אי השוויון: $mx^2 > (m + 4)(x - 1) - x^2$.

מצא לאלו ערכי m אי השוויון מתקיים לכל ערך של x .

(5) נתונה המשוואה הבאה: $-m(x-1)^2 + 2(m+16) = x(6-x(2m-3)) + 1$.

א. מצא עבור אלו ערכי m יש למשוואה:

i. שני פתרונות ממשיים שונים.

ii. פתרון ממשי אחד.

iii. אף פתרון ממשי.

ב. מצא את הפתרון היחיד עבור ערכי ה- m המתאימים במידה והוא קיים.

(6) נתונה המשוואה הבאה: $m^2x(9x+1)+1=0$.

א. מצא עבור אלו ערכי m יש למשוואה:

i. שני פתרונות ממשיים שונים.

ii. פתרון ממשי אחד.

iii. אף פתרון ממשי.

ב. מצא את הפתרון היחיד עבור ערכי ה- m המתאימים במידה והוא קיים.

(7) נתונה המשוואה: $mx^2 - (9m+4)x + 20m + 16 = 0$.

- א. הראה שעבור כל ערך של m יש למשוואה לפחות פתרון ממשי אחד.
 ב. פתור את משוואה והראה כי אחד השורשים הוא מספר קבוע שאינו תלוי ב- m .

(8) לפניך הפונקציה הבאה: $f(x) = (m^2 - m - 2)x^2 + 2(m - 2)x + 4$.

ענה על השאלות הבאות:

- א. עבור אלו ערכי m גרף הפונקציה חותך את ציר ה- x בשתי נקודות שונות?
 ב. עבור אלו ערכי m גרף הפונקציה חותך את ציר ה- x בנקודת אחת בלבד?
 ג. עבור אלו ערכי m גרף הפונקציה לא חותך את ציר ה- x כלל?
 ד. עבור אלו ערכי m גרף הפונקציה חיובי לכל ערך של x ?
 ה. עבור אלו ערכי m גרף הפונקציה שלילי לכל ערך של x ?

(9) נתונה הפונקציה: $f(x) = kx^2 - 5kx + 6k + 1$.

- א. עבור אלו ערכי k גרף הפונקציה יהיה כולו מעל לציר ה- x ?
 ב. עבור איזה ערך של k יתקבל גרף פרבולה הנוגעת בציר ה- x ?

(10) עבור אלו ערכי m גרף הפונקציה: $f(x) = (k^2 - 5k - 6)x^2 + (2 - 3k)x + 2$

הוא אי-שלילי לכל ערך של x ?

(11) נתונות הפונקציות: $f(x) = x^2 + 4x + 2m + 2$ ו- $g(x) = (1 - m)x^2 - 3mx - 1.5$.

- א. מצא עבור אלו ערכי m נחתכים הגרפים של הפונקציות:
 i. בשתי נקודות שונות.
 ii. בנקודה אחת בלבד.
 iii. באף נקודה.
 ב. מצא לאלו ערכי m יהיה גרף הפונקציה $f(x)$ כולו מתחת לגרף הפונקציה $g(x)$.

12 נתונה הפונקציה: $f(x) = 2kx^2 + 6kx + 8k + 2$.

א. עבור איזה ערך של k גרף הפונקציה יהיה ישר העובר ברביעים הראשון והשני בלבד?

מגדירים פונקציה נוספת: $g(x) = kx^2 - 6x - 10$.

ב. האם קיימים ערכי k עבורם גרף הפונקציה $f(x)$ הוא מעל גרף

הפונקציה $g(x)$ לכל x ? הראה חישוב מתאים.

ג. הוכח כי קיים ערך של k עבורו גרפים של שתי הפונקציות משיקים זה לזה ומצא אותו.

13 נתונה הפונקציה הריבועית: $f(x) = 2x^2 - (5m+7)x + 3m^2 + 8m + 5$.

א. הראה כי גרף הפונקציה חותך את ציר ה- x לפחות פעם אחת לכל ערך של m .

ב. מצא את שורשי הפונקציה.

ג. עבור אלו ערכי m סכום השורשים גדול מ-3.5.

ד. מהם שורשי הפונקציה כאשר: $m = 0$?

14 נתונה המשוואה הבאה: $(k+1)x^2 + (k^2 - 4k - 5)x - 54 = 0$.

א. ענה על שני החלקים הבאים:

i. עבור אלו ערכי k יהיו פתרונות המשוואה שני מספרים נגדיים?

ii. מהם פתרונות המשוואה עבור ערכי ה- k שמצאת?

ב. הראה כי לא קיים ערך של k עבורו פתרונות המשוואה:

$$(k-4)x^2 + (6k - k^2 - 8)x + 5k - 10 = 0$$

הם מספרים נגדיים.

15 נתונה הפונקציה הבאה: $f(x) = mx^2 + (m-2)x + m^2 + 3m - 10$.

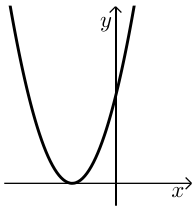
א. מצא עבור אלו ערכי m גרף הפונקציה עובר בראשית הצירים.

ב. מצא את נקודות החיתוך שבין הגרפים המתקבלים עבור כל ערכי ה- m שמצאת בסעיף א'.

16 מצא עבור אלו ערכי m למשוואה: $(4-m)x^2 + (m+2)x + m^2 - 12m - 28 = 0$

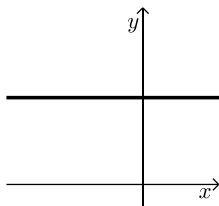
יהיו שני פתרונות ממשיים שונים שאחד מהם הוא אפס.

17 נתונה משפחת הפרבולות הבאה: $f(x) = 2x^2 + (m+1)x + m^2 + 2m - 2.5$.



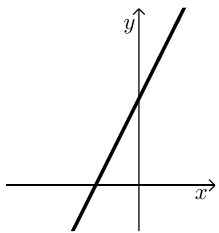
- א. מצא ערך של m עבורו גרף הפרבולה השייכת למשפחת הפונקציות הנ"ל היא מהצורה:
 ב. עבור ערך ה- m שמצאת בסעיף הקודם מצא את התחום של k עבורו יהיה לגרף הפרבולה ולישר $y = kx - 4$ שתי נקודות חיתוך.

18 נתונה הפונקציה הבאה: $f(x) = (m^2 - 5m + 4)x^2 + (2m - 2)x + 1$.



- א. עבור אלו ערכים של m הפונקציה תחתוך את ציר ה- x בשתי נקודות שונות?
 ב. מצא ערך של m עבורו גרף הפונקציה השייך למשפחת הפונקציות הנ"ל יהיה מהצורה שבצד, וכתוב את משוואת הישר המתקבלת במקרה זה.
 ג. הגרף שאת משוואתו מצאת בסעיף הקודם חותך את גרף הפונקציה $f(x)$ בשתי נקודות שונות. הראה כי אחת מהן אינה תלויה ב- m .
 ד. עבור אלו ערכי m נקודת החיתוך שתלויה ב- m תהיה מימין לנקודת החיתוך שמצאת בסעיף הקודם?

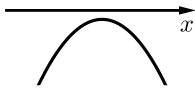
19 נתונה הפונקציה: $f(x) = \frac{4x(mx+2)+4-m}{4}$, m פרמטר חיובי.



- א. הראה כי לכל הגרפים המייצגים את משפחת הפונקציות הנ"ל יש נקודת חיתוך עם ציר ה- x שאינה תלויה ב- m ומצא את נקודה זו.
 ב. עבור איזה ערך של m גרף הפונקציה יהיה מיוצג ע"י ישר מהצורה:
 ג. הראה כי קיים תחום של x אשר לא תלוי ב- m ובו גרף הפונקציה נמצא תמיד מתחת לישר שמצאת בסעיף הקודם ומצא את תחום זה.

20 נתונה הפונקציה: $f(x) = 3m^2x^2 + 4mx + 2$.

- א. הוכח כי הפונקציה נמצאת תמיד מעל לציר ה- x עבור כל ערך של m .
 ב. מגדירים פונקציה חדשה באופן הבא: $y = \frac{mx^2 + 2x(m+2) + m}{3m^2x^2 + 4mx + 2}$. מצא עבור אלו ערכי m הפונקציה y היא שלילית.



21 נתונה הפונקציה: $f(x) = mx^2 + (2m+1)x - \frac{1}{4}$.

א. עבור אלו ערכי m גרף הפונקציה השייך למשפחת הפונקציות הנ"ל יהיה מהצורה:

ב. מגדירים פונקציה חדשה באופן הבא: $y = \frac{(m^2 - 9)x^2 + (m + 3)x - 1}{mx^2 + (2m + 1)x - \frac{1}{4}}$.

הראה כי הפונקציה y חיובית בתחום שמצאת בסעיף הקודם.

ג. דרך נקודת החיתוך של גרף הפונקציה y עם ציר ה- y מעבירים ישר המקביל לציר ה- x .

i. כתוב את משוואת ישר זה.

ii. מצא עבור אלו ערכים של m גרף הפונקציה חותך את הישר

בנקודה שבה: $x = -9$.

תשובות סופיות:

- (1) א. $m > 0$ או $m < -3$ וגם $m \neq 3$ ב. $m = 0, -3$ ג. $-3 < m < 0$.
- (2) $-8 < m \leq 0$
- (3) $m < -3$ או $m > 3\frac{2}{5}$
- (4) $m > 0$
- (5) א. i. $m > 3$ ii. אף m iii. $m < 3$
- ב. לא קיים מקרה בו יש למשוואה פתרון יחיד.
- (6) א. i. $m < -6, m > 6$ ii. $m = \pm 6$ iii. $m \neq 0, -6 < m < 6$
- ב. בשני המקרים יתקבל: $x = -\frac{1}{18}$
- (7) א. מתקבל: $\Delta = (m+4)^2$ שתמיד אי-שלילי ובמקרה הלא-ריבועי מתקבלת משוואה עם פתרון אחד.
- ב. $m_{1,2} = 4, \frac{5m+4}{m}$
- (8) א. $m \neq -1, -2 < m < 2$ ב. $m = -1, -2$ ג. $m < -2, m \geq 2$
- ד. $m = 2, -2 < m < -1$ ה. אף m
- (9) א. $0 \leq k < 4$ ב. $k = 4$
- (10) $-26 \leq k \leq -2$
- (11) א. i. $m < -8, m > -2, m \neq 0$ ii. $m = 0, -2, -8$ iii. $-8 < m < -2$
- ב. $-8 < m < -2$
- (12) א. $k = 0$ ב. לא. אין פתרון לאי-שוויון: $f(x) > g(x)$
- ג. עבור אי-השוויון של סעיף ב' מתקבל: $\Delta = 4(k+3)^2$ ולכן כאשר $k = -3$ הגרפים נוגעים זה בזה בנקודה אחת.
- (13) א. הוכחה. ב. $x_{1,2} = m+1, 1.5m+2.5$
- ג. $m > 0$ ד. $x_{1,2} = 1, 2.5$
- (14) א. i. $k = 5$ ii. $x = \pm 3$ ב. הוכחה.
- (15) א. $m = 2, -5$ ב. $(0,0), (-1,2)$
- (16) $m = 14$
- (17) א. $m = 1$. כאשר: $m = -3$ נקבל גרף: $y = 2x^2 - 2x + 0.5$ המשיק לציר x מימין לראשית ולכן נפסל. ב. $k < -4, k > 8$
- (18) א. $m > 1, m \neq 4$ ב. $f(x) = 1, m = 1$ ג. הנקודה היא: $(0,1)$
- ד. $m \neq 1, m < 4$
- (19) א. הנקודה היא: $(-0.5, 0)$ ב. $m = 0$ ג. $-0.5 < x < 0.5$

(20) א. מתקבל: $\Delta = -8m^2$ ולכן לגרף הפרבולה אין חיתוכים כלל ומכיוון ש-A אי-שלילי הרי שמדובר בפרבולה מרחפת חיובית. במקרה הישר מתקבל ישר המקביל לציר ה- x שגם כן כולו חיובי.
 ב. מאחר והמכנה תמיד חיובי (ממקודם) יש לדרוש תנאים שיקיימו מונה שלילי ($a < 0, \Delta < 0$ - עבור המונה) נקבל: $m < -1$.

(21) א. $-1 < m < -\frac{1}{4}$ ב. הוכחה. ג. i. $y = 4$

ii. $m = 5, -1\frac{7}{9}$

חקירות עם קדקוד פרבולה:

סיכום כללי:

תהא הפונקציה הריבועית: $y = ax^2 + bx + c$ כאשר $a \neq 0$. נגדיר: $\Delta = b^2 - 4ac$.
 התיאור הגרפי של הפונקציה הריבועית הוא פרבולה.

עבור $a \neq 0$ נקבל כי קדקוד הפרבולה הוא: $\left(-\frac{b}{2a}, -\frac{\Delta}{4a}\right)$.

• שאלות העוסקות בקדקוד חיובי/שלילי נדרוש: $-\frac{\Delta}{4a} > 0$ או $-\frac{\Delta}{4a} < 0$ בהתאמה.

• שאלות העוסקות בקדקוד הנמצא מימין/משמאל לציר ה- y נדרוש $-\frac{b}{2a} > 0$

או $-\frac{b}{2a} < 0$ בהתאמה.

• שאלות העוסקות בקדקוד שנמצא מעל/מתחת לישר $y = n$ או מימין/משמאל

לישר $x = k$ נדרוש $-\frac{\Delta}{4a} > n$ ו- $-\frac{b}{2a} > k$ בהתאמה.

• שאלות העוסקות בקדקוד שבאחד הרביעים נדרוש $-\frac{b}{2a} > 0$ ו- $-\frac{\Delta}{4a} > 0$

לפי הרביע המבוקש.

שאלות:

(1) נתונה הפונקציה: $f(x) = (m+3)x^2 + (3m+14)x + 2m+7$.

א. עבור אלו ערכי m גרף הפונקציה הוא פרבולה החותכת את ציר ה- x בשתי נקודות?

ב. הבע באמצעות m את שיעורי קדקוד הפרבולה של גרף הפונקציה הנתונה.

ג. עבור אלו ערכי m קדקוד הפרבולה יהיה וודאי מתחת לישר: $y = -4$?

ד. עבור אלו ערכי m מתקיימים התנאים של סעיף א' ו-ג' יחד?

$$(2) \quad \text{נתונה הפרבולה הבאה: } f(x) = x^2 - 3(m-2)x + 2m^2 - 8m + 7.$$

- א. הוכח את הטענות הבאות:
- i. גרף הפרבולה חותך את ציר ה- x בשתי נקודות עבור כל ערך של m .
 - ii. קדקודי כל הפרבולות המיוצגות ע"י תבנית הפונקציה הנתונה נמצאים מתחת לציר ה- x .
- ב. עבור איזה ערך של m גרף הפרבולה יחתוך את ציר ה- x בשתי נקודות הנמצאות באותו מרחק מראשית הצירים?
- ג. עבור ערך ה- m שמצאת בסעיף הקודם מצא את נקודות החיתוך על ציר ה- x .
- ד. הראה כי קדקוד הפרבולה המתקבלת בעת הצבת ערך ה- m הנ"ל נמצא על ציר ה- y .

$$(3) \quad \text{נתונה הפונקציה: } f(x) = (m^2 - 2m - 3)x^2 + 8x + 0.5.$$

- א. עבור אלו ערכי m גרף הפונקציה הוא פרבולה?
- ב. עבור אלו ערכי m גרף הפונקציה הוא פרבולה החותכת את ציר ה- x בשתי נקודות?
- ג. הבע באמצעות m את שיעורי קדקוד הפרבולה.
- ד. הוכח כי קדקודי כל הפרבולות נמצאים על הישר: $2y = 8x + 1$ עבור כל ערך של m עבורו מתקבלת פרבולה.

$$(4) \quad \text{נתונה הפונקציה: } f(x) = (k^2 - 2k + 15)x^2 + kx + 12.$$

- א. הוכח כי עבור כל ערך של k גרף הפונקציה לא נוגע בציר ה- x כלל.
- ב. הוכח כי קדקוד הפרבולה המיוצגת ע"י התבנית הנ"ל תמיד מעל לציר ה- x .
- ג. עבור איזה ערך של k קדקוד הפרבולה יהיה על ציר ה- y ?
- ד. מצא את שיעורי קדקוד הפרבולה במקרה זה.

$$(5) \quad \text{נתונה הפונקציה הבאה: } f(x) = (k^2 - 9)x^2 + (k + 3)x - 1.$$

- א. עבור אלו ערכי k גרף הפונקציה אינו חותך את ציר ה- x ?
- ב. הבע באמצעות k את שיעורי קדקוד הפרבולה המיוצגת ע"י התבנית של $f(x)$.
- ג. מצא עבור אלו ערכי k קדקוד הפרבולה יהיה ברביע הראשון.
- ד. האם קיים ערך של k עבורו קדקוד הפרבולה נמצא על ציר ה- y ? נמק את תשובתך.

6 נתונה הפונקציה : $f(x) = (m^2 - 4)x^2 + 5mx + 6$

- א. הראה כי הפונקציה חותכת את ציר ה- x לפחות פעם אחת עבור כל ערך של m .
 ב. עבור אלו ערכי m גרף הפונקציה הוא פרבולת מינימום?
 ג. הראה כי קדקוד הפרבולה המתקבל עבור ערכי ה- m שמצאת בסעיף הקודם נמצא תמיד מתחת לציר ה- x .

7 נתונה הפונקציה : $f(x) = (m^2 - 8m + 12)x^2 + (m - 2)x + 2$

- א. עבור אלו ערכי m גרף הפונקציה יהיה כולו מעל לציר ה- x ?
 ב. עבור אלו ערכי m גרף הפונקציה הוא פרבולה מרחפת חיובית שקדקודה משמאל לישר : $x = -\frac{1}{2}$.
 ג. האם ייתכן כי גרף הפונקציה יכול להיות פרבולת מקסימום שקדקודה הוא משמאל לישר : $x = -\frac{1}{2}$? נמק והראה חישוב מתאים.

8 נתונות הפונקציות הבאות : $f(x) = (m^2 - 4)x^2 + 2x + 1$, $g(x) = (m + 2)x^2 + (5 - m)x + 3$

- א. ענה על השאלות הבאות:
 i. מצא ערך של m עבורו הגרפים משיקים זה לזה.
 ii. מצא ערך של m עבורו הגרפים חותכים זה את זה בנקודה אחת בלבד.
 iii. הסבר מדוע בכל מקרה התקבל ערך m שונה.
 ב. עבור אלו ערכי m הגרפים של הפונקציות הם פרבולות מינימום המקיימות שקדקוד הפרבולה המיוצגת ע"י הפונקציה $f(x)$ נמצא מימין לקדקוד הפרבולה המיוצגת ע"י $g(x)$?

9 נתונות הפונקציות הבאות : $f(x) = (m^2 - 9)x^2 + 7x + 5$, $g(x) = (m - 3)x^2 + (4m - 3)x + 1$

- א. עבור אלו ערכי m הגרפים נחתכים בשתי נקודות שונות?
 ב. ענה על השאלות הבאות:
 i. עבור איזה ערך של m הגרפים הם פרבולות נוגעות זו בזו?
 ii. עבור איזה ערך של m הגרפים חותכים זה את זה בנקודה אחת בלבד.
 iii. הסבר את ההבדל בין הערכים של m שהתקבלו בחלק i ובחלק ii.
 ג. מצא את נקודת החיתוך של שני הגרפים.
 ד. עבור אלו ערכי m הסכום של שיעורי ה- x של נקודות קדקודי הפרבולות של שתי הפונקציות יהיה קטן מ-1?

תשובות סופיות:

(1) א. $m < -28$, $m > -4$, $m \neq -3$. ב. $\left(\frac{-3m-14}{2m+6}, \frac{-m^2-32m-112}{4m+12} \right)$

ג. $m > -3$. ד. $m > -3$.

(2) א. i. מתקבל: $\Delta = m^2 - 4m + 8$ שחיובי תמיד.

ii שיעור ה- y של הקדקוד הוא: $-\frac{\Delta}{4}$ אשר שלילי תמיד. ב. $m = 2$

ג. $(\pm 1, 0)$. ד. הקדקוד: $(0, -1)$.

(3) א. $m \neq 3, -1$. ב. $-5 < m < 7$. ג. $\left(\frac{-4}{m^2-2m-3}, \frac{m^2-2m-35}{2(m^2-2m-3)} \right)$

ד. יש להציב את הקדקוד בישר ולקבל שוויון אמת.

(4) א. המקדם a תמיד חיובי ומתקבל: $\Delta = -47k^2 + 96k - 720$ שתמיד שלילי.

מכאן שמדובר בפרבולה מרחפת עבור כל k . ג. $k = 0$. ד. $(0, 12)$.

(5) א. $-3 \leq k < 1.8$. ב. $\left(\frac{1}{2(3-k)}, \frac{9-5k}{4(k-3)} \right)$. ג. $1.8 < k < 3$.

ד. לא. מכיוון שלא קיים ערך של k עבורו שיעור ה- x של קדקוד הפרבולה יהיה אפס.

(6) א. מתקבל: $\Delta = m^2 + 96$ המעיד כי תמיד יש לפונקציה שני חיתוכים וכאשר $m = \pm 2$

מתקבלים שני ישרים החותכים את ציר ה- x . ב. $m < -2$, $m > 2$.

(7) א. $m \leq 2$, $m > 6\frac{4}{7}$. ב. $6\frac{4}{7} < m < 7$. ג. לא.

(8) א. i. $m = -1\frac{4}{9}$. ii. $m = -2$. iii. במקרה i מדובר בפרבולות אשר

יכולות להשיק ובמקרה ii מדובר בשני ישרים אשר רק נחתכים. ב. $3 < m < 4$.

(9) א. $m \neq 3, -2$, $m < 3\frac{1}{16}$. ב. i. $m = 3\frac{1}{16}$. ii. $m = 3, -2$.

iii. במקרה i מדובר במשוואה ריבועית ובנקודת השקה, ובמקרה ii מדובר במשוואה ליניארית ובנקודת חיתוך.

ג. עבור $m = -2$ מתקבלת: $\left(-\frac{2}{9}, 3\frac{16}{81} \right)$, עבור: $m = 3$ מתקבלת: $(2, 19)$.

ד. $m < -3$, $-2.72 < m < 1.22$, $m > 3$.

מכינה במתמטיקה להנדסת מכונות

פרק 7 - נוסחאות וייטה

תוכן העניינים

1. הגדרת נוסחאות וייטה וחישובים יסודיים 121
2. חקירת משוואות עם נוסחאות וייטה (ללא ספר)

הגדרת נוסחאות וייטה וחישובים יסודיים:

סיכום כללי:

הגדרה:

נתונה הפונקציה הריבועית: $y = ax^2 + bx + c$, כאשר: $a \neq 0, \Delta > 0$.

אם x_1 ו- x_2 הם שורשי המשוואה: $ax^2 + bx + c = 0$ אז מתקיים: $x_1 \cdot x_2 = \frac{c}{a}$, $x_1 + x_2 = -\frac{b}{a}$.

לקשרים אלו קוראים בשם **נוסחאות וייטה** והם תקפים רק במשוואה ריבועית שבה $\Delta > 0$.

שאלות:

1) לפיך משוואות ריבועיות. מבלי לפתור, מצא את הסכום ואת מכפלת השורשים שלהם:

א. $x^2 + 5x - 8 = 0$.

ב. $3x^2 - 7x + 4 = 0$.

ג. $x^2 + 9x - 14 = 0$.

ד. $13x - 6x^2 + 7 = 0$.

2) נתונה משוואה ריבועית: $ax^2 + 3x + 5 = 0$. מצא את a אם ידוע כי למשוואה שני שורשים ממשיים שונים אשר סכומם הוא 3.

3) נתונה משוואה ריבועית: $\alpha x^2 + (\beta - \alpha)x - 16 = 0$, (α, β) פרמטרים. מצא את ערכי הפרמטרים α ו- β אם ידוע כי למשוואה שני שורשים ממשיים שונים אשר סכומם הוא -2 ומכפלתם היא -16.

4) כתוב משוואה ריבועית אשר לה שני שורשים ממשיים שונים, x_1 ו- x_2 .

שמקיימים: $x_1 + x_2 = 5$ ו- $x_1 \cdot x_2 = -2$.

כמה משוואות כאלה תיתכנה? נמק.

תשובות סופיות:

$$(1) \quad \text{א. } x_1 + x_2 = -5, x_1 x_2 = -8 \quad \text{ב. } x_1 + x_2 = 2\frac{1}{3}, x_1 x_2 = 1\frac{1}{3}$$

$$\text{ג. } x_1 + x_2 = -9, x_1 x_2 = -14 \quad \text{ד. } x_1 + x_2 = \frac{6}{13}, x_1 x_2 = \frac{7}{13}$$

$$(2) \quad a = -1$$

$$(3) \quad \alpha = 1, \beta = 3$$

$$(4) \quad \text{אם } a = 1 \text{ אז: } x^2 - 5x - 2 = 0$$

$$\text{יש אינסוף משוואות מהצורה: } ax^2 - 5ax - 2a = 0$$

מכינה במתמטיקה להנדסת מכונות

פרק 8 - חוקי החזקות והשורשים

תוכן העניינים

123	1. חוקי החזקות
128	2. חוקי השורשים
132	3. כתיבה מדעית של מספרים

חוקי החזקות:

סיכום כללי:

סיכום חוקי החזקות:

$$\begin{array}{lll}
 a^n \cdot a^m = a^{m+n} & .3 & a^1 = a & .2 & a^0 = 1 & .1 \\
 a^m \cdot b^m = (a \cdot b)^m & .6 & (a^n)^m = a^{n \cdot m} & .5 & \frac{a^n}{a^m} = a^{n-m} & .4 \\
 \left(\frac{a}{b}\right)^{-m} = \left(\frac{b}{a}\right)^m & .9 & a^{-m} = \frac{1}{a^m} & .8 & \frac{a^m}{b^m} = \left(\frac{a}{b}\right)^m & .7
 \end{array}$$

שאלות:

(1) פשט את הביטויים הבאים בעזרת החוקים: $a^n a^m = a^{n+m}$ ו- $\frac{a^n}{a^m} = a^{n-m}$

$$\begin{array}{lll}
 b^2 b^5 b^{12} b^3 & .ג & t^3 t^5 t^7 & .ב & a^2 a^6 & .א \\
 \frac{c^6}{c^2} & .ו & \frac{n^{14}}{n^9} & .ה & \frac{k^8}{k^3} & .ד \\
 \frac{y^3 y^{15}}{y^4 y^{14}} & .ט & \frac{x^{30}}{x^9 x^{18}} & .ח & \frac{a^3 a^{19}}{a^{15}} & .ז \\
 \frac{5^{20} 5^3 5^{16}}{5^4 5^{22} 5^8} & .יב & \frac{2^{16} 2^2}{2^{10}} & .יא & 3^2 3^3 3^4 & .י
 \end{array}$$

(2) פשט את הביטויים הבאים בעזרת החוקים: $a^n a^m = a^{n+m}$ ו- $\frac{a^n}{a^m} = a^{n-m}$

$$\begin{array}{lll}
 \frac{x^8 y^5 y^9 x^2}{y^4 x^4} & .ג & \frac{a^{10} b^{13} a^3}{b^4 b^6 b^2 a^{12}} & .ב & \frac{3^4 2^7}{2^6 3^2} & .א
 \end{array}$$

(3) לפניך הביטוי הבא: $\frac{3^6 2^{17} 3^3 2^4}{3^4 2^3 2^2}$

מצא n כך שיתקיים שוויון בין הביטוי $243 \cdot 2^n$ לבין הביטוי הנתון.

(4) חשב ללא מחשבון את ערכי הביטויים הבאים:

$\frac{9^3 \cdot 27^2}{3^9 \cdot 81} \quad \text{ב.}$	$\frac{2^3 \cdot 2^7}{2^4 \cdot 2^5} \quad \text{א.}$
$2^3 + 2^5 \quad \text{ד.}$	$\frac{10^9 \cdot 25^5 \cdot 8^{-1}}{40^3 \cdot 125^5} \quad \text{ג.}$

(5) פשט את הביטויים הבאים בעזרת החוק: $(a^n)^m = a^{n \cdot m}$.

$(x^3 x^{10})^2 \quad \text{ג.}$	$(c^3)^{10} \quad \text{ב.}$	$(a^2)^4 \quad \text{א.}$
$\frac{d^{20} (d^4)^2}{d^{12} (d^3)^2} \quad \text{ו.}$	$\frac{n^7 n^8}{(n^3)^4} \quad \text{ה.}$	$\frac{(b^2)^3}{b^2 b^3} \quad \text{ד.}$
$\frac{(8^3)^8 8^{11}}{(8^2 8)^3 8^8} \quad \text{ט.}$	$\frac{3^6 (3^3 3^2)^6}{3^{28} (3^2)^3} \quad \text{ח.}$	$\frac{2^5 (2^4)^2 2^3}{(2^3 2^2)^3} \quad \text{ז.}$
$\frac{(3^2)^7 5^{10} (5^3)^2}{3^9 5^{16}} \quad \text{יב.}$	$\frac{(3^2)^6 5^{31} 3^7}{(5^2)^{10} 5^{11} 3^{18}} \quad \text{יא.}$	$\frac{(2^4)^5 (3^6)^7 2^{20}}{3^{35} 2^{40}} \quad \text{י.}$

(6) לפניך הביטויים הבאים: $\left((3^2)^3\right)^4$ ו- $\left((3^6)^n\right)^2$.

מצא n כך שיתקיים שוויון בין שני הביטויים.

(7) חשב ללא מחשבון את הביטויים הבאים:

$\frac{7^{12} 2^2 2^6}{2^5 7^{10} 7} \quad \text{ג.}$	$\frac{5^{20} 3^{14} 3^8}{3^{20} 5^{12} 5^8} \quad \text{ב.}$	$\frac{2^3 3^5}{2^2 3^4} \quad \text{א.}$
---	---	---

(8) פשט את הביטויים הבאים:

$125 \cdot 25 \cdot 5^5 \quad \text{ג.}$	$64^2 2^3 8^2 \quad \text{ב.}$	$3^2 9 \cdot 81^2 \quad \text{א.}$
$\frac{\left((3^4)^4\right)^5}{81^3 27^4 3^5} \quad \text{ו.}$	$\frac{(4^2)^3 16}{64 \cdot 2^3} \quad \text{ה.}$	$\frac{2^4 \cdot 16^5}{8 \cdot 512} \quad \text{ד.}$

9 פשט את הביטויים הבאים :

$$\begin{array}{ll} \text{א.} & \frac{(2a^2b)^3 \cdot (ab^{-3})^2}{4ab^{-2} \cdot \left(\frac{a^2}{b}\right)^4} \\ \text{ב.} & \frac{(k^2)^{m+2} \cdot k^{1-3m}}{(k^{2m})^3 \cdot \frac{1}{k^{7m-4}}} \\ \text{ג.} & \frac{4^{b+3}}{4^{b+1} + 4^{b+2}} \\ \text{ד.} & \frac{1}{x^2} \cdot \frac{x^{n+3} + x^{n+5}}{x^{n+2}} \end{array}$$

10 פשט את הביטויים הבאים בעזרת החוקים: $(ab)^n = a^n b^n$ ו- $\left(\frac{a}{b}\right)^n = \frac{a^n}{b^n}$

$$\begin{array}{lll} \text{א.} & (a^2b)^3 & \text{ב.} & (m^4n^3)^5 & \text{ג.} & (x^{12}y^3)^3 \\ \text{ד.} & \left(\frac{a^3}{b^2}\right)^4 & \text{ה.} & \left(\frac{i^4}{k^3}\right)^7 & \text{ו.} & \left(\frac{a^{14}b^4}{a^6ab^3}\right)^3 \\ \text{ז.} & \left(\frac{x^3y^5y^2x^6}{y^4x^7}\right)^6 & \text{ח.} & \left(\frac{t^7r^{20}t^3}{r^2r^{12}t^8}\right)^2 & \text{ט.} & \left(\frac{(b^{12}c)^2c^{14}}{c(c^3b^5)^4b^3}\right)^2 \end{array}$$

11 חשב ללא מחשבון את הביטויים הבאים :

$$\begin{array}{lll} \text{א.} & \left(\frac{3^9 2^6 2^2}{3^6 2^5 3^2}\right)^2 & \text{ב.} & \left(\frac{(5^4)^2 3^6}{3^5 5^7}\right)^2 & \text{ג.} & \left(\frac{7^3 \cdot 16 \cdot 128 \cdot 49}{(2^2 7)^5}\right)^3 \end{array}$$

12 בטא את הביטויים הבאים מחדש בעזרת שימוש בחזקה שלילית :

$$\begin{array}{lll} \text{א.} & \frac{1}{4^6} & \text{ב.} & \frac{1}{5^3} & \text{ג.} & \frac{1}{2^{10}} \\ \text{ד.} & \frac{1}{8} & \text{ה.} & \frac{1}{81} & \text{ו.} & \frac{1}{125} \end{array}$$

13 בטא את הביטויים הבאים מחדש בעזרת שימוש בחזקה חיובית וחשב את ערכם :

$$\begin{array}{lll} \text{א.} & \frac{1}{4^{-3}} & \text{ב.} & \frac{1}{3^{-2}} & \text{ג.} & \frac{1}{5^{-3}} \end{array}$$

14) חשב את הביטויים הבאים :

ג. $5^6 \cdot 5^{-3} \cdot 5^{-2}$

ב. $2^{-8} \cdot 512 \cdot 2^2$

א. $3^2 \cdot 3^{-5} \cdot 3^7$

ו. $\frac{3^{-6} \cdot 7^7 \cdot 7^{-4}}{3^{-4} \cdot 3^{-3} \cdot 7^3}$

ה. $\frac{2^{-5} \cdot 5^3 \cdot 2^{14}}{5^2 \cdot 5^{-10} \cdot 5^8 \cdot 2^6}$

ד. $2^{14} \cdot 3^{-6} \cdot 2^{16} \cdot 3^4 \cdot 2^{-30}$

15) פשט את הביטויים הבאים לצורה ללא חזקות שליליות.

ג. $\frac{2^{-3} 5^4}{5^4 \cdot 125 \cdot (5^2 2)^{-3} \cdot 2^{-4}}$

ב. $\frac{(4^4)^{-4} 3^{-11}}{(3^{-2} 4^3)^{-6}}$

א. $\left(\frac{5^{-4}}{3^2}\right)^{-6}$

16) פשט את הביטויים הבאים :

ג. $\frac{(m^{n+2})^3 \cdot m^{-4n-2}}{\frac{1}{m^{6n+2}} \cdot (m^3)^{n-2}}$

ב. $\frac{(k^2)^{m+2} \cdot k^{1-3m}}{(k^{2m})^3 \cdot \frac{1}{k^{7m-4}}}$

א. $\frac{a^{n+2} \cdot a^{2-3n}}{(a^3)^{n+1}}$

תשובות סופיות:

- (1) א. a^8 ב. t^{15} ג. b^{22} ד. k^5 ה. n^5 ו. c^4
 ז. a^7 ח. x^3 ט. 1 י. 3^9 יא. 2^8 יב. 5^5
- (2) א. 18 ב. ab ג. $x^6 y^{10}$
- (3) $n=16$
- (4) א. 2 ב. $\frac{1}{3}$ ג. $\frac{5}{8}$ ד. 40
- (5) א. a^8 ב. c^{30} ג. x^{26} ד. b ה. n^3 ו. d^{10}
 ז. 2 ח. 9 ט. 8^{18} י. 3^7 יא. 3 יב. 3^5
- (6) $n=2$
- (7) א. 6 ב. 9 ג. 56
- (8) א. 3^{12} ב. 2^{21} ג. 5^{10} ד. 2^{12} ה. 2^7 ו. 3^{51}
- (9) א. $\frac{2b^3}{a}$ ב. k ג. $3\frac{1}{5}$ ד. $\frac{1}{x} + x$
- (10) א. $a^6 b^3$ ב. $m^{20} n^{15}$ ג. $x^{36} y^9$ ד. $\frac{a^{12}}{b^8}$ ה. $\frac{i^{28}}{k^{21}}$ ו. $a^{21} b^3$
- ז. $x^{12} y^{18}$ ח. $t^4 r^{12}$ ט. $b^2 c^6$ ג. 8
- (11) א. 576 ב. 225 ג. 8
- (12) א. 4^{-6} ב. 5^{-3} ג. 2^{-10} ד. 2^{-3} ה. 3^{-4} ו. 5^{-3}
- (13) א. 64 ב. 9 ג. 125
- (14) א. 81 ב. 8 ג. 5 ד. $\frac{1}{9}$ ה. 1000 ו. 3
- (15) א. $5^{24} \cdot 3^{12}$ ב. $\frac{4^2}{3^{23}}$ ג. $5^3 \cdot 2^4$
- (16) א. a^{1-5n} ב. k ג. m^{2n+12}

חוקי השורשים:

סיכום כללי:

סיכום חוקי השורשים:

$$\begin{array}{lll}
 \sqrt[n]{a^n} = a^{\frac{n}{n}} & .3 & \sqrt[n]{a} = a^{\frac{1}{n}} & .2 & \sqrt{a} = a^{\frac{1}{2}} & .1 \\
 \sqrt[n]{\sqrt[m]{a}} = \sqrt[m \cdot n]{a} & .6 & \frac{\sqrt[m]{a}}{\sqrt[m]{b}} = \sqrt[m]{\frac{a}{b}} & .5 & \sqrt[n]{a} \cdot \sqrt[n]{b} = \sqrt[n]{a \cdot b} & .4
 \end{array}$$

שאלות:

17) הבא את הביטויים הבאים לצורה: $\sqrt[n]{a^m}$.

$$\begin{array}{lll}
 \text{א. } 3^{\frac{1}{4}} & \text{ב. } 2^{\frac{3}{5}} & \text{ג. } 6^{\frac{5}{6}} \\
 \text{ד. } -12^{\frac{2}{7}} & \text{ה. } -(-4)^{\frac{1}{3}} & \text{ו. } -(-3)^{\frac{3}{4}} \\
 \text{ז. } 5^{-\frac{1}{4}} & \text{ח. } 27^{-\frac{1}{3}} & \text{ט. } 64^{-\frac{5}{6}}
 \end{array}$$

18) חשב ללא מחשבון את ערכם של הביטויים הבאים:

$$\begin{array}{lll}
 \text{א. } \sqrt{49} & \text{ב. } -\sqrt{25} & \text{ג. } \sqrt[3]{8} \\
 \text{ד. } -\sqrt[3]{128} & \text{ה. } \sqrt[3]{(-2)^6} & \text{ו. } (\sqrt[5]{1024})^2 \\
 \text{ז. } (\sqrt[5]{-243})^3 & \text{ח. } \sqrt[4]{-16} & \text{ט. } \sqrt[4]{-25^2} \\
 \text{י. } \sqrt[4]{(-25)^2} & &
 \end{array}$$

19) חשב ללא מחשבון את ערכם של הביטויים הבאים :

א. $8^{\frac{2}{3}}$	ב. $32^{\frac{3}{5}}$	ג. $128^{\frac{2}{7}}$
ד. $\left(\frac{1}{25}\right)^{-1.5}$	ה. $\left(2\frac{1}{4}\right)^{-2.5}$	ו. $\left(\frac{64}{343}\right)^{\frac{2}{3}}$
ז. $81^{\frac{3}{4}} \cdot 64^{\frac{1}{3}}$	ח. $343^{\frac{2}{3}} \cdot 100^{\frac{1}{2}}$	ט. $16^{\frac{1}{4}} \cdot 8^{\frac{1}{3}} \cdot 4^{\frac{1}{2}}$

20) חשב ללא מחשבון את ערך הביטוי הבא : $\frac{\sqrt[5]{2^2} \cdot \sqrt{8}}{\sqrt[3]{128}}$

21) פשט את הביטויים הבאים :

א. $\sqrt{2} \cdot \sqrt{8}$	ב. $\sqrt{3} \cdot \sqrt{27}$	ג. $\sqrt{4} \cdot \sqrt{5} \cdot \sqrt{20}$
ד. $\frac{\sqrt{72}}{\sqrt{2}}$	ה. $\frac{\sqrt[3]{81}}{\sqrt[3]{3}}$	ו. $\frac{\sqrt[5]{96}}{\sqrt[5]{3}}$
ז. $\frac{\sqrt[5]{2^2} \cdot \sqrt{8}}{\sqrt[5]{128}}$	ח. $\frac{\sqrt[3]{500} \cdot \sqrt{5}}{\sqrt[4]{25^2} \cdot \sqrt[3]{4}}$	ט. $\frac{\sqrt[3]{8^2} \sqrt[4]{25}}{\sqrt[4]{400} \sqrt{2}}$

22) הכנס לתוך שורש את המספרים החופשיים :

א. $3\sqrt{2}$	ב. $5\sqrt{3}$	ג. $\frac{\sqrt{36}}{2}$
ד. $2\sqrt[3]{3}$	ה. $x\sqrt{x}$	

23) הכנס את כל המקדמים בביטויים הבאים לתוך השורש :

א. $2\sqrt{5}$	ב. $4\sqrt[3]{2}$	ג. $2\sqrt[5]{3}$
ד. $\frac{\sqrt{24}}{2}$	ה. $\frac{\sqrt[3]{24}}{2}$	ו. $\frac{3\sqrt[4]{5000}}{10}$
ז. $-5\sqrt[3]{2}$	ח. $-5\sqrt[4]{2}$	ט. $-5\sqrt[5]{-2}$

24) הוצא מהשורש את הכופל הגדול ביותר :

- א. $\sqrt{12}$ ב. $\sqrt{48}$ ג. $\sqrt{63}$
- ד. $\sqrt[3]{54}$ ה. $\sqrt{x^5}$

25) חלץ מן הביטויים הבאים את המקדם הגבוה ביותר ככל הניתן :

- א. $\sqrt{40}$ ב. $\sqrt{50}$ ג. $\sqrt{320}$
- ד. $\sqrt[3]{108}$ ה. $\sqrt[3]{56}$ ו. $\sqrt[3]{160}$
- ז. $\sqrt[4]{162}$ ח. $\sqrt[5]{972}$ ט. $\sqrt[9]{192}$

26) פשט את הביטויים הבאים :

- א. $\sqrt{18} - \sqrt{8}$ ב. $\sqrt{7} + \sqrt{63}$ ג. $\sqrt[3]{16} + \sqrt[3]{128}$
- ד. $\sqrt[4]{405} - \sqrt[4]{80}$ ה. $\frac{20}{\sqrt{5}}$ ו. $\frac{\sqrt{8}}{2}$
- ז. $\frac{16}{\sqrt{2}}$ ח. $\frac{6}{\sqrt{3} + \sqrt{12}}$ ט. $\frac{10}{\sqrt[5]{160} - \sqrt[5]{5}}$

27) פשט את הביטויים הבאים :

- א. $3^{\frac{1}{4}} \cdot 9^{-2.5} \cdot 27^{\frac{3}{2}}$ ב. $2^{\frac{3}{4}} \cdot 16^{\frac{1}{2}} \cdot 64^{-3}$ ג. $125^{\frac{1}{6}} \cdot 5^2 \cdot 5^{-\frac{2}{3}}$
- ד. $\frac{27^{\frac{4}{3}} \cdot 3^{-\frac{2}{3}}}{9^{\frac{1}{6}}}$ ה. $\frac{49^{\frac{2}{5}} \cdot 7^{-\frac{6}{5}}}{343^{\frac{1}{5}}}$ ו. $\frac{512^{\frac{1}{4}} \cdot 64^{\frac{3}{4}}}{128^{\frac{1}{8}} \cdot 2^{-2}}$

תשובות סופיות:

- (17) א. $\sqrt[4]{3}$ ב. $\sqrt[5]{2^3}$ ג. $\sqrt[6]{6^5}$ ד. $-\sqrt[7]{12^2}$ ה. $-\sqrt[3]{-4}$ ו. ϕ
- ז. $\frac{1}{\sqrt[4]{5}}$ ח. $\frac{1}{\sqrt[3]{27}}$ או $\frac{1}{3}$ ט. $\frac{1}{\sqrt[6]{64^5}}$ או $\frac{1}{2^5}$
- (18) א. 7 ב. -5 ג. 2 ד. -2 ה. 4 ו. 16
- ז. -27 ח. ϕ ט. ϕ י. 5
- (19) א. 4 ב. $\frac{1}{8}$ ג. $\frac{1}{4}$ ד. 125 ה. $\frac{32}{243}$ ו. $\frac{49}{16}$
- ז. $\frac{27}{4}$ ח. $\frac{10}{49}$ ט. $\frac{1}{2}$
- (20) $\sqrt{2}$
- (21) א. 4 ב. 9 ג. 20 ד. 6 ה. 3 ו. 2
- ז. $\sqrt{2}$ ח. $\sqrt{5}$ ט. $\sqrt{2}$
- (22) א. $\sqrt{18}$ ב. $\sqrt{75}$ ג. $\sqrt{9}$ ד. $\sqrt[3]{24}$ ה. $\sqrt{x^3}$
- (23) א. $\sqrt{20}$ ב. $\sqrt[3]{128}$ ג. $\sqrt[5]{96}$ ד. $\sqrt{6}$ ה. $\sqrt[3]{3}$
- ו. $\sqrt[4]{40 \cdot \frac{1}{2}}$ ז. $\sqrt[3]{-250}$ ח. $-\sqrt[4]{1250}$ ט. $\sqrt[5]{5^5 \cdot 2}$
- (24) א. $2\sqrt{3}$ ב. $4\sqrt{3}$ ג. $3\sqrt{7}$ ד. $3\sqrt[3]{2}$ ה. $x^2\sqrt{x}$
- (25) א. $2\sqrt{10}$ ב. $5\sqrt{2}$ ג. $8\sqrt{5}$ ד. $3\sqrt[3]{4}$ ה. $2\sqrt[3]{7}$ ו. $2\sqrt[5]{5}$
- ז. $3\sqrt[4]{2}$ ח. $3\sqrt[5]{4}$ ט. $2\sqrt[6]{3}$
- (26) א. $\sqrt{2}$ ב. $4\sqrt{7}$ ג. $6\sqrt[3]{2}$ ד. $\sqrt[4]{5}$ ה. $4\sqrt{5}$ ו. $\sqrt{2}$
- ז. $8\sqrt{2}$ ח. $\frac{2}{\sqrt{3}}$ או $\frac{2\sqrt{3}}{3}$ ט. $\frac{10}{\sqrt[3]{5}}$ או $2\sqrt[5]{5^4}$
- (27) א. $\frac{1}{\sqrt[4]{3}}$ ב. $\frac{1}{\sqrt[4]{2^{61}}}$ ג. $\sqrt[6]{5^{11}}$ ד. 27 ה. $\frac{1}{7}$ ו. $\sqrt[8]{2^5}$

כתיבה מדעית של מספרים:

שאלות:

28) בטא את המספרים הבאים בכתיב מדעי:

א. 15,000,000	ב. 1,500,000
ג. 150,000,000,000	ד. 23,400,000
ה. 0.0003	ו. 0.00000042
ז. 0.000000042	ח. 0.00000000042

29) בטא את המספרים הבאים בכתיב מדעי:

א. $(3,000,000)^2$	ב. $(2,000,000)^2$
ג. $(5,000)^3$	ד. $(50,000)^3$
ה. $(0.0002)^4$	ו. $(0.00004)^3$
ז. $(0.000005)^3$	ח. $(0.000000007)^3$

תשובות סופיות:

28) א. $1.5 \cdot 10^7$	ב. $1.5 \cdot 10^6$	ג. $1.5 \cdot 10^{11}$	ד. $2.34 \cdot 10^7$	ה. $3 \cdot 10^{-4}$
ו. $4.2 \cdot 10^{-7}$	ז. $4.2 \cdot 10^{-8}$	ח. $4.2 \cdot 10^{-10}$		
29) א. $9 \cdot 10^{12}$	ב. $4 \cdot 10^{12}$	ג. $1.25 \cdot 10^{11}$	ד. $1.25 \cdot 10^{14}$	ה. $1.6 \cdot 10^{-15}$
ו. $6.4 \cdot 10^{-14}$	ז. $1.25 \cdot 10^{-16}$	ח. $3.43 \cdot 10^{-25}$		

מכינה במתמטיקה להנדסת מכונות

פרק 9 - משוואות ואי-שוויונים מעריכיים

תוכן העניינים

133	1. משוואות מעריכיות יסודיות
135	2. משוואות עם חיבור וחסור איברים
137	3. משוואות בהן המשתנה גם בבסיס
138	4. משוואות מסכמות שונות
139	5. משוואות עם קבוע אוילר
140	6. מערכת משוואות מעריכיות
141	7. אי שוויונים מעריכיים
142	8. אי-שוויונים עם משתנה בבסיס ובמעריך

משוואות מעריכיות יסודיות:

סיכום כללי:

- פתרון כללי של משוואת מעריכית מהצורה: $a^x = a^y$ הוא: $x = y$.
- פתרון של משוואה מהצורה: $a^x = 1$ הוא: $x = 0$ שכן: $a^x = 1 = a^0$.
- פתרון של משוואה מהצורה: $a^x = b^x$ הוא: $x = 0$ שכן: $a^x = b^x = 1$ ללא תלות בבסיסים.

שאלות:

(1) פתור את המשוואות הבאות (שימוש בחוקי החזקות היסודיים):

א. $2^x = 16$ ב. $5^x \cdot 25^{x+2} = 125$

ג. $10^{x-2} = 10000^{x+1}$ ד. $9^x \cdot 3^{x^2} = 81^{3x-4}$

ה. $(2^x \cdot 32)^3 = 8$ ו. $(5^{x^2})^5 \cdot \frac{1}{5^5} = 625^{x-1}$

ז. $\frac{7^x}{343^3} = 1$ ח. $(25 \cdot 0.2^{2x})^2 = \left(\frac{1}{125}\right)^{1-x}$

(2) פתור את המשוואות הבאות (הבסיס הוא שבר):

א. $27 \cdot \left(\frac{3}{2}\right)^{5x+2} = 8$ ב. $\left(\frac{3}{4}\right)^{2-x} \cdot \left(\frac{4}{3}\right)^{3x} = \left(\frac{9}{16}\right)^{7+x}$

ג. $25 \left(\frac{7}{5}\right)^{x^2-2x} \cdot \left(\frac{5}{7}\right)^{4-x} = 49$

(3) פתור את המשוואות הבאות (שימוש בחוקי השורשים):

א. $\sqrt{27} \cdot \left(\frac{1}{3}\right)^{2x} = 9\sqrt{3}$ ב. $\sqrt{3^{x+7}} = 81$

ג. $(9\sqrt{27})^{3x} \cdot 3^{2-x} = \frac{1}{9}$ ד. $\sqrt[3]{16} \cdot \left(\frac{1}{2^x}\right)^3 = \frac{1}{16}$

ה. $2^{\sqrt{x}} \cdot \frac{1}{\sqrt{2^x}} = 8(\sqrt{8})^{-\sqrt{x}}$ ו. $5^x \cdot \frac{1}{25^5} = 125^{\sqrt{x}}$

4) פתור את המשוואות הבאות (מכפלת בסיסים שונים):

א. $2^x = 7^x$	ב. $3^x \cdot \frac{625}{\sqrt{25^x}} = 81$
ג. $2^{3x} \cdot 5^{3x} = 1000000$	ד. $2^{x+1} \cdot 3^{x-2} \cdot 7^x = 392$
ה. $243 \cdot 2^{x-1} \cdot 18^{x-9} = \frac{1}{3^{x-2}}$	ו. $108 \cdot \frac{1}{2^{1-2x}} = 72^x \cdot \sqrt{0.5}$
ז. $2^{2x+2} \cdot 5^{x+1} = (2\sqrt{5})^{4-x}$	

תשובות סופיות:

א. $x = 4$	ב. $x = -\frac{1}{3}$	ג. $x = -2$	ד. $x = 2, 8$	ה. $x = -4$
ו. $x = 1, -\frac{1}{5}$	ז. $x = 9$	ח. $x = 1$		
א. $x = -1$	ב. $x = -2$	ג. $x = 3, -2$		
א. $x = -\frac{1}{2}$	ב. $x = 1$	ג. $x = -\frac{8}{19}$	ד. $x = 2, -\frac{2}{3}$	ו. $x = 25$
א. $x = 0$	ב. $x = 4$	ג. $x = 2$	ד. $x = 2$	ה. $x = 5$
ו. $x = 1.5$	ז. $x = \frac{2}{3}$			

משוואות עם חיבור וחסור איברים:

סיכום כללי:

במשוואות הכוללות חיבור וחסור של איברים, נאתר את הבסיס עם המעריך הקטן ביותר ונסמן אותו ב- t , למשל במשוואה: $4^x - 3 \cdot 2^x = 4$ נסמן: $2^x = t$.
 נבטא את כל איברים המשוואה באמצעות t ונפתור אותה עבורו.
 לאחר מכן נחזיר את ההצבה למציאת ערכי ה- x המתאימים.

שאלות:

(1) פתור את המשוואות הבאות (משוואות יסודיות עם חיבור וחסור ממעלה ראשונה):

א. $2^x + 6 \cdot 2^x = 56$

ב. $8^x + 3 \cdot 8^x = 256$

ג. $5 \cdot 3^x - 3^{x+1} = 162$

ד. $2 \cdot 6^x + 6^{x+2} - 6^{x-1} = 227$

(2) פתור את המשוואות הבאות (משוואות כלליות עם חיבור וחסור ממעלה ראשונה):

א. $81^{x+1} + 18 \cdot 3^{4x-3} = 735$

ב. $5^{3x+2} + 4 \cdot 125^x = 29$

ג. $(2^{3x+1})^2 - 64^{x-\frac{1}{3}} = 15$

ד. $\sqrt{10000^{x+1}} - \sqrt[4]{10^{8x+1}} = \sqrt[4]{1000} \cdot (\sqrt[4]{10^7} - 1)$

ה. $6^{-x} - 5 \cdot 36^{-\left(\frac{x}{2}+1\right)} = 186$

ו. $5^{-x} + 25^{\frac{1-x}{2}} - 5^{-x-1} = 145$

ז. $2 \cdot 10^{x+1} + 10^{x+2} = 3 \cdot 5^{x+1}$

ח. $4^{x+2} - 6 \cdot 4^x = 7 \cdot 12^{x+1} + 6 \cdot 12^x$

(3) פתור את המשוואות הבאות (משוואות עם חיבור וחסור ממעלה שנייה):

א. $9^x - 36 \cdot 3^x + 243 = 0$

ב. $16^{x+1} - 65 \cdot 4^x + 4 = 0$

ג. $6^x - 4 \cdot 6^{-x} + 3 = 0$

ד. $4^{-x} - 3 \cdot 4^x + 2 = 0$

ה. $\left(\frac{4}{9}\right)^x - \frac{5}{2} \cdot \left(\frac{3}{2}\right)^{-x-1} = -\frac{2}{3}$

ו. $\left(2^{\frac{1}{3}x+2}\right)^2 - 5 \cdot 2^{\frac{1}{3}x+1} + 1 = 0$

(4) פתור את המשוואות הבאות (משוואות כלליות):

א. $\frac{20}{9^x+1} = 3 - \frac{8}{9^x-1}$

ב. $\frac{7^x}{7^x-4} + \frac{8}{7^x+5} = 3$

5) פתור את המשוואות הבאות (משוואות מסכמות):

א. $\frac{1}{25^{1-x}} - 6 \cdot 5^{x-1.5} + 1 = 0$	ב. $3^x - \sqrt{16 \cdot 3^{x+1}} = -9$
ג. $36^x - 6^{x+1} \cdot 3^x + 8 \cdot 9^x = 0$	ד. $4 \cdot 9^x - 10 \cdot 6^x + 6 \cdot 4^x = 0$
ה. $25 \cdot 5^{2x} + 16 \cdot 15^x = 9^{x+1}$	ו. $9^x + 4^x - 6^x = \frac{7}{6^{1-x}}$
ז. $\frac{8^{2x} - 8}{7} = 4^x - 2$	ח. $2^{3x} - 2^{2x+2} - 2^x + 4 = 0$

תשובות סופיות:

א. $x=3$	ב. $x=2$	ג. $x=4$	ד. $x=1$
א. $x=\frac{1}{2}$	ב. $x=0$	ג. $x=\frac{1}{3}$	ד. $x=\frac{1}{4}$
ה. $x=-3$	ו. $x=-2$	ז. $x=-3$	ח. $x=-2$
א. $x=2,3$	ב. $x=1,-2$	ג. $x=0$	ד. $x=0$
ה. $x=0,1$	ו. $x=-6,-9$		
א. $x=1, -\frac{1}{2}$	ב. $x=1$		
א. $x=\frac{1}{2}, 1\frac{1}{2}$	ב. $x=1,3$	ג. $x=1,2$	ד. $x=1,0$
ה. $x=-2$	ו. $x=1,-1$	ז. $x=0, \frac{1}{2}$	ח. $x=0,2$

משוואות בהן המשתנה גם בבסיס:

סיכום כללי:

במשוואות עם משתנה בבסיס יש לדרוש תנאי עבורו הבסיס חיובי. יש לקחת את חיתוך תחומי ההגדרה (במידה וקיימים ביטויים עם שורשים או שברים) יחד עם תוצאת השוואת המעריכים.

הערה:

יש לבדוק את ערכי ה- x עבורם הבסיס שווה ל-1 ולראות האם מתקבל פסוק אמת או פסוק שקר. בהתאם יש להוסיף או להוריד אותו מתחום המספרים המהווים את פתרון המשוואה.

שאלות:

פתור את המשוואות הבאות:

$$(\sqrt{3-x})^{\sqrt{x}} = (\sqrt[3]{3-x})^x \cdot \sqrt{\sqrt[3]{3-x}} \quad (1)$$

$$\left(1 + \frac{1}{x}\right)^{x^2+x} = 1 \quad (2)$$

$$\frac{|x-3|^{x^2-2}}{|x-3|^{x-1}} = |x-3|^{-1} \quad (3)$$

תשובות סופיות:

$$x = \frac{1}{4}, 1, 2 \quad (1)$$

(2) אין פתרון.

$$x = 0, 1, 2, 4 \quad (3)$$

משוואות מסכמות שונות:

שאלות:

פתור את המשוואות הבאות:

$$.5(2^x - 2) + 2 = 4^x - 2^x \quad (1)$$

$$\cdot \frac{6}{4^{x-1} - 1} + \frac{2^{x+1}}{2^x + 2} = \frac{2^x + 4}{2^x - 2} \quad (2)$$

$$\cdot \frac{4^x}{4^x - 10} - \frac{4}{2^{2x-1} - 3} = \frac{32}{16^x - 4^{x+2} + 60} \quad (3)$$

$$\cdot 3^{2x^2+2} - 3^{x^2+3} + 9 = 3^{x^2+1} \quad (4)$$

$$\cdot \sqrt{x}{10} = 4 \cdot \sqrt[2x]{10} + 60 \quad (5)$$

$$\cdot \sqrt[x-1]{8 \cdot 2^{x+1}} = (\sqrt{x}{2})^2 \cdot \sqrt[x-1]{\sqrt{x}{32}} \quad (6)$$

$$\cdot 10 \cdot 4^{x+2} - 16 \cdot 10^x - 90 \cdot 6^x + 36 \cdot 15^x = 0 \quad (7)$$

תשובות סופיות:

$$\cdot x = 1, 2 \quad (1)$$

$$\cdot x = 3 \quad (2)$$

$$\cdot x = 1.5 \quad (3)$$

$$\cdot x = 1, -1 \quad (4)$$

$$\cdot x = \frac{1}{2} \quad (5)$$

$$\cdot x = -3 \quad (6)$$

$$\cdot x = 1, -2 \quad (7)$$

משוואות עם קבוע אוילר:

סיכום כללי:

קבוע אוילר מסומן באות e וערכו שווה (בערך) ל-2.71828. למספר זה משמעויות רבות במתמטיקה ובמדעים ועל כן הוחלט לסמן אותו באות משלו ולשלב אותו במשוואות מתמטיות ועוד.

דרך הפתרון של משוואה שבה הבסיס הוא e זהה לחלוטין לשל משוואה מעריכית רגילה כפי שנלמד בפרק זה.

שאלות:

(1) פתור את המשוואות הבאות (משוואות יסודיות עם קבוע אוילר):

$$\text{א. } e^{3x} = e^{2x-1} \quad \text{ב. } e^{5x-1} = e \cdot e^{6x+1}$$

$$\text{ג. } e^{x-5} = (e^{1-x})^3 \quad \text{ד. } e^x \cdot \sqrt{e^{3x-1}} = \left(\frac{1}{e^x}\right)^{1-3x}$$

(2) פתור את המשוואות הבאות (משוואות עם חיבור וחיסור):

$$\text{א. } e^2 \cdot e^x - e^{x+1} = e - 1 \quad \text{ב. } \sqrt[3]{e^{x+1}} \cdot e^2 = e^x \sqrt{e}$$

$$\text{ג. } e^{2x} + e^x - 2 = 0 \quad \text{ד. } e^{1+x} + e^{1-x} = e^2 + 1$$

(3) פתור את המשוואות הבאות (המשתנה גם בבסיס):

$$\text{א. } xe^x = \sqrt[4]{e} \cdot x \quad \text{ב. } e^{3x} = x \cdot e^{3x}$$

$$\text{ג. } xe^{x^2} = \frac{x}{\sqrt{e^x}} \quad \text{ד. } \sqrt[3]{e^{3x-1}} \cdot x = xe^x$$

תשובות סופיות:

$$(1) \quad \text{א. } x = -1 \quad \text{ב. } x = -3 \quad \text{ג. } x = 2 \quad \text{ד. } x = 1, \frac{1}{6}$$

$$(2) \quad \text{א. } x = -1 \quad \text{ב. } x = \frac{11}{4} \quad \text{ג. } x = 0 \quad \text{ד. } x = 1, -1$$

$$(3) \quad \text{א. } x = 0, \frac{1}{4} \quad \text{ב. } x = 1 \quad \text{ג. } x = 0, -\frac{1}{2} \quad \text{ד. } x = 0$$

מערכת משוואות מעריכיות:

שאלות:

$$(1) \quad \begin{cases} y = 3^x \\ y = 18 - 3^x \end{cases} \quad \text{פתור את מערכת המשוואות הבאה:}$$

$$(2) \quad \begin{cases} 5^{2x} - 5^y = 5^x - 25 \\ y - x = 2 \end{cases} \quad \text{פתור את מערכת המשוואות הבאה:}$$

$$(3) \quad \begin{cases} \frac{1}{3^y - 4} + \frac{3}{3^x - 2} - \frac{1}{3^x + 2} = 3 \\ 4^y = \sqrt{256^x} \end{cases} \quad \text{פתור את מערכת המשוואות הבאה:}$$

$$(4) \quad \begin{cases} 5^x + 2^y = 13 \\ 2 \cdot 5^x - 2^y = 2 \end{cases} \quad \text{פתור את מערכת המשוואות הבאה:}$$

$$(5) \quad \begin{cases} 2 \cdot 3^x - 3 \cdot 2^y = 42 \\ 3^{x+1} - 2^{y+1} = 73 \end{cases} \quad \text{פתור את מערכת המשוואות הבאה:}$$

$$(6) \quad \begin{cases} 5^{2x+1} + 8 \cdot 10^x - 2^{2y+4} = 0 \\ (\sqrt{3})^y = 27^{\frac{x-1}{6}} \end{cases} \quad \text{פתור את מערכת המשוואות הבאה:}$$

$$(7) \quad \begin{cases} 6 \cdot 4^x - 7 \cdot 6^{y-1} + 2 \cdot 3^{x+y} = 6^y \\ \sqrt[4]{5^x} \cdot \sqrt{(5\sqrt{5})^y} = \sqrt[4]{125} \cdot 5^x \end{cases} \quad \text{פתור את מערכת המשוואות הבאה:}$$

תשובות סופיות:

(1,3) (4)	(1,2) (3)	(0,2) , (2,4) (2)	(2,9) (1)
(1,2) , (-1,0) (7)	(-1,-2) (6)	(3,2) (5)	

אי שוויונים מעריכיים:

סיכום כללי:

פתרון אי-השוויון: $a^x > a^y$ הוא: $x > y$ עבור: $a > 1$ ו- $x < y$ עבור: $0 < a < 1$.

שאלות:

פתור את אי השוויונים הבאים:

$$\sqrt{2^x} \leq 4^{x^2-1\frac{1}{4}} \quad (2)$$

$$3^{2x+1} < 27^{1-\frac{1}{3}x} \quad (1)$$

$$\left(\frac{1}{7}\right)^{5x} \geq \left(\frac{1}{7}\right)^{1-3x} \quad (4)$$

$$e^{\sqrt{x+1}} > e^{2x} \quad (3)$$

$$e^{2x} - 2e^x + 1 \leq 0 \quad (6)$$

$$25^x + 5 < 6 \cdot 5^x \quad (5)$$

הערה:

השאלות הבאות דורשות הכרות עם מושג הלוגריתם הטבעי (\ln) וכן חוקי הלוגריתמים אשר ילמדו בהמשך.

$$e^{2x} - 5e^x + 4 > 0 \quad (8)$$

$$e^x > 3 \quad (7)$$

תשובות סופיות:

$$x \leq -1 \text{ או } x \geq 1\frac{1}{4} \quad (2)$$

$$x < \frac{2}{3} \quad (1)$$

$$x \leq \frac{1}{8} \quad (4)$$

$$0 \leq x < 1 \quad (3)$$

$$x = 0 \quad (6)$$

$$0 < x < 1 \quad (5)$$

$$x < 0 \text{ או } x > \ln 4 \quad (8)$$

$$x > \ln 3 \quad (7)$$

אי-שוויונים עם משתנה בבסיס ובמעריך:

סיכום כללי:

דרך הפתרון של אי שוויון עם משתנה בבסיס ובמעריך:

- יש לדרוש בסיס חיובי ולחבר אי-שוויון בהתאם.
- יש לפתור את אי השוויון לפי השוואת מעריכים.
- יש למצוא את חיתוך הפתרונות.

נתון: $f(x)^{g(x)} > f(x)^{h(x)}$ נדרוש: $f(x) > 0$.

דרך הפתרון: אם: $f(x) > 1$ אז: $g(x) > h(x)$.

אם: $0 < f(x) < 1$ אז: $g(x) < h(x)$.

לבסוף נמצא את חיתוך התחומים.

שאלות:

פתור את אי השוויונים הבאים:

$$(x-2)^{2x-5} < (x-2)^{x+1} \quad (2) \qquad x^{2x-1} > x^{x+2} \quad (1)$$

$$x^{2x^2+2} < x^{5x} \quad (4) \qquad x^{2x-6} < 1 \quad (3)$$

$$(x+1)^{|x|} < x^2 + 2x + 1 \quad (6) \qquad (x^2 - 6x + 13)^{x^2 - 2x} \geq (x^2 - 6x + 13)^3 \quad (5)$$

תשובות סופיות:

$$.0 < x < 1, x > 3 \quad (1)$$

$$.3 < x < 6 \quad (2)$$

$$.1 < x < 3 \quad (3)$$

$$.0 < x < 0.5, 1 < x < 2 \quad (4)$$

$$.x \leq -1, x \geq 3 \quad (5)$$

$$.0 < x < 2 \quad (6)$$

מכינה במתמטיקה להנדסת מכונות

פרק 10 - חוקי הלוגריתמים, משוואות ואי-שוויונים לוגריתמים

תוכן העניינים

143	1. הגדרת הלוגריתם ומשוואות יסודיות
146	2. חוקי הלוגריתמים
150	3. חישובים עם חזקה לוגריתמית
151	4. מעבר בין בסיסים
153	5. הלוגריתם הטבעי
155	6. משוואות עם בסיסים שונים
156	7. מערכת משוואות לוגריתמיות
157	8. מערכת משוואות לוגריתמיות ומעריכיות
158	9. אי-שוויונים לוגריתמים

הגדרת הלוגריתם ומשוואות יסודיות:

סיכום כללי:

הגדרה:

הלוגריתם מוגדר באופן הבא: $\log_a b = x \Leftrightarrow a^x = b$ כאשר: $a, b > 0, a \neq 1$.

הסבר:

לוגריתם על בסיס a של b מוגדר בתור החזקה שיש להעלות את a על מנת שיהיה שווה ל- b .
 ערך חזקה זו הוא x . ערך לוגריתם יכול להיות חיובי, שלילי או אפס. נחשב ערכי לוגריתמים
 ונפתור משוואות לוגריתמיות ע"י מעבר לפי ההגדרה למשוואה מעריכית מתאימה.

כללים יסודיים בלוגריתמים:

מהגדרת הלוגריתם נובע כי: $\log_a a = 1$ וכן: $\log_a 1 = 0$ לכל $a > 0, a \neq 1$.

שאלות:

(1) חשב ללא מחשבון את ערכי הביטויים הלוגריתמים הבאים:

א. $\log_2 32$ ב. $\log 1000$ ג. $\log_{25} 5$

ד. $\log_8 4$ ה. $\log_4 \frac{1}{16}$ ו. $\log_a a^4$

ז. $\log_a \frac{1}{a\sqrt{a}}$

(2) פתור את המשוואות הלוגריתמיות הבאות (יסודי - שימוש בהגדרת הלוג):

א. $\log_{36} 6 = x$ ב. $\log_2 x = 16$

ג. $\log_{\frac{1}{9}} x = -1.5$ ד. $\log_x 64 = 3$

ה. $\log_x 25 = 2$ ו. $\log_x (3x+4) = 2$

3) פתור את המשוואות הלוגריתמיות הבאות (כללי - שימוש בהגדרת הלוג):

$$\text{א. } \log_6(4x-2)=1 \quad \text{ב. } \log_4(4-x)=\frac{1}{2}$$

$$\text{ג. } \log_8(x^4-73)=1 \quad \text{ד. } \log_3 \frac{x+3}{3-3x}=-2$$

$$\text{ה. } \log_x(2x^2+x-12)=2 \quad \text{ו. } \log_{\sqrt{x+1}}(2x^2-5)=2$$

4) פתור את המשוואות הלוגריתמיות הבאות (שימוש בהגדרת הלוג מספר פעמים):

$$\text{א. } \log_4(\log_3 x)=1 \quad \text{ב. } 3\log_{27}(\log_2(x+3))=1$$

$$\text{ג. } \log_{\frac{1}{16}}(\log_3(5x^2+1))=-\frac{1}{2} \quad \text{ד. } \log_6(3+\log_2(6+\log_4(x^2+15)))=1$$

5) פתור את המשוואות הלוגריתמיות הבאות (מתקבלת משוואה מעריכית):

$$\text{א. } \log_2(3^x+37)=6 \quad \text{ב. } \log_3(3 \cdot 2^x-303)=4$$

$$\text{ג. } \log_5(126 \cdot 5^x-25)=2x+1 \quad \text{ד. } 3\log_2\left(3 \cdot 4^{1+\frac{1}{3}x}-11 \cdot 2^{\frac{x}{3}}+3\right)=12+2x$$

6) פתור את המשוואות הלוגריתמיות הבאות (הצבה):

$$\text{א. } (\log_2 x)^4=10000 \quad \text{ב. } 2(\log_3 x)^2+\log_3 x=10$$

$$\text{ג. } \frac{3 \cdot \log_{14} x+1}{(\log_{14} x)^2}=4 \quad \text{ד. } \sqrt{\log_{\frac{1}{81}} x}+\sqrt{\log_{\frac{1}{81}} x+2}=2$$

תשובות סופיות:

- (1) א. 5 ב. 3 ג. $\frac{1}{2}$ ד. $\frac{2}{3}$ ה. -2
- ו. -1.5 ז. 4
- (2) א. $x = \frac{1}{2}$ ב. $x = 65,536$ ג. $x = 27$ ד. $x = 4$
- ה. $x = 5$ ו. $x = 4$
- (3) א. $x = 2$ ב. $x = 2$ ג. $x = \pm 3$ ד. $x = -2$ ה. $x = 3$ ו. $x = 2$
- (4) א. $x = 81$ ב. $x = 5$ ג. $x = \pm 4$ ד. $x = \pm 1$
- (5) א. $x = 3$ ב. $x = 7$ ג. $x = -1, 2$ ד. $x = -6$
- (6) א. $x = 1024, \frac{1}{1024}$ ב. $x = 9, \frac{1}{9\sqrt{3}}$
- ג. $x = 14, \frac{1}{\sqrt[4]{14}}$ ד. $x = \frac{1}{3}$

חוקי הלוגריתמים:

סיכום כללי:

- להלן 3 חוקי הלוגריתמים עבור בסיס $a > 0 \neq 1$ וארגומנטים x ו- y חיוביים:
- מכפלה לסכום: $\log_a(x \cdot y) = \log_a x + \log_a y$.
 - מנה להפרש: $\log_a\left(\frac{x}{y}\right) = \log_a x - \log_a y$.
 - מקדם למעריך: $\log_a b^n = n \log_a b$ (כאשר $b > 0$ ו- n מספר ממשי כלשהו).

שאלות:

שאלות חישוב כלליות:

(1) חשב ללא מחשבון את ערכי הביטויים הבאים (שימוש בחוקי הלוגים):

- | | |
|--|---|
| א. $\log_3 12 + \log_3 2.25$ | ב. $\log_{\frac{1}{5}} 40 + \log_{\frac{1}{5}} 12.5 + \log_{\frac{1}{5}} \frac{1}{4}$ |
| ג. $\log_2 200 - \log_2 100$ | ד. $\log_3 60 - \log_3 540$ |
| ה. $\log_4 8 + \log_4 12 - \log_4 6$ | ו. $\log_7 1.5 - \log_7 147 + \log_7 2$ |
| ז. $3 \log_5 2 - \log_5 1.6$ | ח. $\log_{\sqrt{4}} 6.4 + 2 \log_{\sqrt{4}} \sqrt{10}$ |
| ט. $\frac{1}{2} \left(\log_7 \frac{7}{2} + \log_7 2 \right) + \log_7 14 - \frac{1}{3} \log_7 8$ | י. $\frac{1}{4} \log 81 - \log 1.5 - \frac{1}{2} \log 40$ |

(2) חשב ללא מחשבון את ערכי הביטויים הבאים (שימוש בחוקי הלוגים):

- | | |
|---|--|
| א. $\frac{\log_5 16}{\log_5 8}$ | ב. $\frac{\log_9 62.5 + \log_9 2}{\log_9 0.2}$ |
| ג. $\frac{\log_3 5 - \log_3 2 + \log_3 50}{\log_3 225 - 2}$ | ד. $\frac{2 - 2 \log_3 4 + \log_3 8 \frac{8}{9}}{4 - \log_3 0.01 - 2 \log_3 18}$ |

משוואות לוגריתמיות:

(3) פתור את המשוואות הבאות (שימוש ישיר בחוקי הלוגריתמים):

א. $\log_2 x + \log_2 (x-6) = 4$ ב. $\log_3 x + \log_3 (x+2) = 1$

ג. $\log_2 (x+30) - \log_2 x = 4$ ד. $\log_5 (x+146) - \log_5 (x+2) = 2$

ה. $2\log_3 (2x-1) - \log_3 (22x+9) = -1$

ו. $2\log_5 (x-2) = \log_5 (4x-15) + \log_5 x$

(4) פתור את המשוואות הבאות (פתרון בשיטת לוג שווה לוג):

א. $\log_5 (4x-3) = \log_5 7$

ב. $2\log_2 (2x-2) - \log_2 (16-x) = \log_2 (x-1) + 1$

(5) פתור את המשוואות הבאות (מתקבלת משוואה מעריכית):

א. $\log_3 (3 \cdot 5^x + 39) = 3 + \log_3 (5^x - 3)$

ב. $\log_2 (3 - 4^{x+1}) - \log_2 11 = x$

(6) פתור את המשוואות הבאות (שימוש הפוך בחוקי הלוגריתמים):

א. $\log_4 x \cdot \log_4 (16x) = 8$

ב. $\log_2 \left(\frac{x}{4} \right) \cdot \log_2 (1024x) = -11$

ג. $\log_2 x^2 \log_2 \left(\frac{x}{16} \right) = -\log_2 (64x)$

ד. $(\log_4 4x)^2 = \log_4 4x^2 + 1$

ה. $\log_3 (9x^2) \cdot \log_3 (9x^3) = \log_3 \left(\frac{81}{x} \right) + 2$

ו. $\frac{\log_2 \left(\frac{x^3}{32} \right)}{(\log_2 x)^2} + \frac{\log_2 (2x)}{\log_2 x} = 1 \frac{7}{9}$

שאלות הבעה:

(7) נתון: $\log_3 2 = a$. הבע באמצעות a את ערכי הביטויים הבאים:

א. $\log_3 16$ ב. $\log_3 6$

ג. $\log_3 24$ ד. $\log_3 1.5$

(8) נתון: $\log_2 5 = b$, $\log_2 3 = a$. הבע באמצעות a ו- b את ערכי הביטויים הבאים:

א. $\log_2 45$ ב. $\log_2 60$ ג. $\log_2 \sqrt{7.5}$

(9) נתון: $\log_{18} 2 + \log_{18} 3 = a$.

הבע באמצעות a את $\log_{18} 27$ ואת $\log_{18} 16$.

שאלות נוספות:

בכל אחת מהמשוואות הבאות, חשב את ערך הביטוי שמשמאל וקבל את התוצאה מימין:

(10) $\log 4 \log 40 + \log 5 \log 16 = \log 64$

(11) $2 \log^2 2 + \log 25 \cdot \log 20 = 2$

(12) $\log_{12} 16 \cdot \log_{12} 4 + \log_{12} 9 \cdot \log_{12} 48 = 2$

(13) $\log_5 10 \cdot \log_5 75 - \log_5 3 \cdot \log_5 2 - \log_5 3 - \log_5 4 = 2$

תשובות סופיות:

- (1) א. 3 ב. -3 ג. 1 ד. -2 ה. 2 ו. -0.5
- (2) א. $\frac{4}{3}$ ב. -3 ג. 1.5 ד. 0.5
- (3) א. $x=8$ ב. $x=3, \frac{1}{27}$ ג. $x=2$ ד. $x=4$ ה. $x=3$ ו. $x=4$
- (4) א. $x=2.5$ ב. $x=6$
- (5) א. $x=1$ ב. $x=-2$
- (6) א. $x=16, \frac{1}{256}$ ב. $x=2, \frac{1}{512}$ ג. $x=4, 2\sqrt{2}$ ד. $x=4, \frac{1}{4}$
- ה. $x=\frac{1}{9}, \sqrt[9]{3}$ ו. $x=8, \sqrt[7]{2^{15}}$
- (7) א. $4a$ ב. $a+1$ ג. $3a+1$ ד. $1-a$
- (8) א. $2a+b$ ב. $2+a+b$ ג. $\frac{1}{2}a + \frac{1}{2}b - \frac{1}{2}$
- (9) $4(2a-1), 3(1-a)$
- (10) הוכחה.
- (11) הוכחה.
- (12) הוכחה.
- (13) הוכחה.

חישובים עם חזקה לוגריתמית:

סיכום כללי:

מהגדרת הלוגריתם ניתן לנסח את הקשר הבא: $a^{\log_a x} = x$ כאשר $a > 0 \neq 1$.

שאלות:

(1) חשב ללא מחשבון את ערכי הביטויים הבאים (חזקה לוגריתמית):

א. $6^{\log_6 8}$ ב. $4^{\log_2 5}$

(2) נתונה התבנית: $3 \cdot 4^x$. חשב את ערכה עבור:

א. $x = \log_4 7$ ב. $x = \log_4 \sqrt{3}$

ג. $x = 2 \log_4 0.1$ ד. $x = \sqrt{\log_2 5}$

(3) נתונה התבנית: $\frac{1}{6} \cdot 9^x - 2 \cdot 3^x + 1$. חשב את ערכה עבור:

א. $x = -1$ ב. $x = \log_3 5$

ג. $x = \log_3 \sqrt{6}$

(4) חשב:

א. $\left(\frac{1}{6}\right)^{\log_{\sqrt{56}} 81}$ ב. $\sqrt[3]{2^{3-\log_{\sqrt{8}} 5}}$

תשובות סופיות:

(1) א. 8 ב. 25

(2) א. 21 ב. $3\sqrt{3}$ ג. 0.03 ד. 15

(3) א. $\frac{19}{54}$ ב. $-4\frac{5}{6}$ ג. $2-2\sqrt{6}$

(4) א. $\frac{1}{81}$ ב. $\frac{2}{\sqrt[2]{25}}$

מעבר בין בסיסים:

סיכום כללי:

מעבר מבסיס a לבסיס m (כאשר: $a > 0 \neq 1$ ו- $m > 0 \neq 1$, וכן: $b > 0$)

$$\log_a b = \frac{\log_m b}{\log_m a}$$

יתבצע באופן הבא:

שאלות:

שאלות חישוב כלליות:

(1) חשב את ערכי הביטויים הבאים:

ב. $\log_{0.1} 3 \cdot \log_9 1000$

א. $\log_4 7 \cdot \log_7 4$

ד. $\log_4 169 \cdot \log_{25} 64 \cdot \log_{13} 625$

ג. $\log_{\sqrt{3}} 5 \cdot \log_{\sqrt{125}} 9$

(2) הוכח את השוויונים הבאים:

א. $\log_2 25 \cdot \log_5 3 \cdot \log_9 2 = 1$

ב. $\log_{16} 9 \cdot \log_5 4 \cdot \log_3 5 = 1$

משוואות לוגריתמיות:

(3) פתור את המשוואות הבאות:

ב. $\log_3 x \cdot \log_{27} x = 3$

א. $\log_2 x + \log_{32} x = 6$

ד. $\log_x 5 - 6 \log_{125} x = 1$

ג. $\log_2 4x \cdot \log_8 \frac{x}{16} = -\frac{5}{3}$

שאלות הבעה:

(4) נתון: $\log_4 6 = a$. הבע באמצעות a את ערכי הביטויים הבאים:

ג. $\log_{216} 96$

ב. $\log_{32} 36$

א. $\log_2 3$

(5) נתון: $\log_2 3 = a$, $\log_3 5 = b$. הבע באמצעות a ו- b את ערכי הביטויים הבאים:

ג. $\log_5 22.5$

ב. $\log_2 \sqrt{30}$

א. $\log_3 50$

6 נתון $\log_3 7 = a$, $\log 9 = 2b$. הבע באמצעות a ו- b את:

א. $\log 21$.

ב. $\log_3 \left(\frac{10}{7} \right)$.

ג. $\log_7 10$.

ד. $\log_{30} 63$.

שאלות נוספות:

בכל אחת מהמשוואות הבאות, חשב את ערך הביטוי שמשמאל וקבל את התוצאה מימין:

7 $\log_6 9 \cdot \log_{15} 30 + \log_6 5 \cdot \log_{15} 4 = 2$

8 $\log \sqrt{3} \cdot \log_6 50 + \log \sqrt{2} \cdot \log_6 300 = 1$

תשובות סופיות:

1 א. 1 ב. -1.5 ג. $2\frac{2}{3}$ ד. 12

2 א. שאלת הוכחה. ב. שאלת הוכחה.

3 א. $x = 32$ ב. $x = 27, \frac{1}{27}$ ג. $x = 8, \frac{1}{2}$ ד. $x = \frac{1}{5}, \sqrt{5}$

4 א. $2a - 1$ ב. $0.8a$ ג. $\frac{a+2}{3a}$

5 א. $2b + \frac{1}{a}$ ב. $\frac{a}{2} + \frac{ab}{2} + \frac{1}{2}$ ג. $\frac{2}{b} + 1 - \frac{1}{ab}$

6 א. $b + ab$ ב. $\frac{1}{b} - a$ ג. $\frac{1}{ab}$ ד. $\frac{ab+2b}{b+1}$

7 הוכחה.

8 הוכחה.

הלוגריתם הטבעי:

סיכום כללי:

לוגריתם על בסיס e (קבוע אוילר) מסומן: $\log_e \Rightarrow \ln$ והוא נקרא הלוגריתם הטבעי. למשל: $\ln 3 = \log_e 3$ או $\ln \frac{1}{4} = \log_e \frac{1}{4}$. לוג זה נקרא בשם לן. מהגדרת הלוגריתם מתקיים: $\ln a = b \rightarrow e^b = a$ כאשר $a > 0$ ו- b מספרים כלשהם.

שאלות:

(1) חשב ללא מחשבון את ערכי הביטויים הלוגריתמיים הטבעיים הבאים:

$$\ln e^2 \quad \text{א.} \quad \ln \frac{1}{e^4} \quad \text{ב.} \quad \ln \frac{1}{e\sqrt{e}} \quad \text{ג.}$$

(2) פתור את המשוואות הלוגריתמיות הבאות (שימוש בהגדרת הלוג):

$$\ln x = 2 \quad \text{א.} \quad \ln x = -\frac{1}{2} \quad \text{ב.}$$

(3) פתור את המשוואות הבאות (הצבה וחוקי הלוגריתמים):

$$\ln \left(e^{2x} - \frac{1}{2} \right) + \ln 2 = x \quad \text{א.}$$

$$3 \ln^2 x + \ln x = 2 \quad \text{ב.}$$

$$\ln(e^2 x^3) \cdot \ln \frac{1}{x} = \ln(ex^2) \quad \text{ג.}$$

(4) פתור את המשוואות הלוגריתמיות הבאות (הוצאת לוג משני אגפי המשוואה)

$$x^{\ln x} = e^6 x \quad \text{א.} \quad \left(\frac{1}{x} \right)^{2-3 \ln x} = \frac{1}{e} \cdot x^{1+\ln x} \quad \text{ב.}$$

(5) חשב ללא מחשבון את ערכי הביטויים הבאים (חזקה לוגריתמית):

$$e^{\ln 3} \quad \text{א.} \quad e^{2 \ln 3} \quad \text{ב.}$$

תשובות סופיות:

$$(1) \quad \text{א. } 2 \quad \text{ב. } -4 \quad \text{ג. } -1.5$$

$$(2) \quad \text{א. } x = e^2 \quad \text{ב. } x = \frac{1}{\sqrt{e}}$$

$$(3) \quad \text{א. } x = 0 \quad \text{ב. } x = \sqrt[3]{e^2}, \frac{1}{e} \quad \text{ג. } x = \frac{1}{\sqrt[3]{e}}, \frac{1}{e}$$

$$(4) \quad \text{א. } x = e^3, \frac{1}{e^2} \quad \text{ב. } x = \sqrt{e}, e$$

$$(5) \quad \text{א. } 3 \quad \text{ב. } 9$$

משוואות עם בסיסים שונים:

סיכום כללי:

לעיתים תתקבל משוואה מעריכית שבה לא ניתן למצוא חזקה שלמה, כגון: $3^x = 4$. במקרים אלו נעזר בהגדרת הלוג כדי לבטא את ערך המעריך: $x = \log_3 4$. את ערך הביטוי $\log_3 4$ ניתן לחשב ע"י מחשבון או ע"י מעבר לבסיס 10: $\log_3 4 = \frac{\log 4}{\log 3}$.

שאלות:

(1) פתור את המשוואות הבאות (בסיסים שונים):

א. $3^x = 6$ ב. $2^x - 9 = 0$

ג. $49^x - 8 \cdot 7^x + 15 = 0$ ד. $2 \cdot 3^{\frac{2x}{3}} + 5 \cdot 3^{\frac{x}{3}} + 2 = 0$

(2) פתור את המשוואות הבאות (משוואות עם בסיס ולוגריתם טבעי):

א. $e^{3x} = 3$ ב. $4 + 3e^x = 9$

ג. $3e^{2x} - 4e^x + 1 = 0$ ד. $e(e^x + 1) = 2\sqrt{e^{x+2}} + 9e$

(3) פתור את המשוואות הבאות (משוואות כלליות עם פתרונות לא שלמים):

א. $\log_2(7 - 5^x) = \log_2 \frac{10}{5^x}$ ב. $\log_2(4e^{2x} + 6) - 1 = \log_2(7e^x)$

תשובות סופיות:

(1) א. $x = \log_3 6 = 1.63$ ב. $x = \log_2 9 = 3.17$

ג. $x = \log_7 3 = 0.564$, $x = \log_7 5 = 0.827$ ד. אין פתרון.

(2) א. $x = \frac{1}{3} \ln 3 = 0.36$ ב. $x = \ln \frac{5}{3} = 0.51$ ג. $x = 0$, $x = -\ln 3 = -1.09$

ד. $x = \ln 16 = 2.7725$

(3) א. $x = 1$, $x = \log_5 2 = 0.43$ ב. $x_1 = \ln \frac{1}{2} = -0.693$, $x = \ln 3 = 1.098$

מערכת משוואות לוגריתמיות:

שאלות:

פתור את מערכות המשוואות הבאות:

$$\begin{cases} \log_6^2 x - \log_6(2y-2) = 2 \\ \frac{1}{2}x = y-1 \end{cases} \quad (2) \qquad \begin{cases} y = \log_2 x \\ y = 6 - \log_2 x \end{cases} \quad (1)$$

$$\begin{cases} \log_3(x+y) = \log_3(4x+y) - 2 \\ \log_5(5x+3y) = 2 \end{cases} \quad (3)$$

$$\begin{cases} \log_2(\log_3(x-y)) = 1 \\ \log_5(x+y-11) = \log_{25} x + \frac{1}{2}\log_5(y+2) \end{cases} \quad (4)$$

$$\begin{cases} \log_2 x^2 + \log_3 \frac{1}{y} = 9 \\ \log_2 \sqrt{x} + \log_{\sqrt[3]{3}} y = -1 \end{cases} \quad (6) \qquad \begin{cases} \log_5 x + 6\log_4 y = 11 \\ 10\log_5 x - 2\log_4 y = 17 \end{cases} \quad (5)$$

$$\begin{cases} xy = 27 \\ x^{\log_3 y} = 9 \end{cases} \quad (8) \qquad \begin{cases} \log_5 x + 2^{\log_2 y} = 6 \\ x^y = 5^8 \end{cases} \quad (7)$$

$$\begin{cases} 2^{\frac{\log_1(2x-y)}{2}} = 7^{\log_7 \frac{2x+y}{15}} \\ \log_3 x + \log_3 y = \frac{1}{\log_{28} 3} \end{cases} \quad (9)$$

תשובות סופיות:

$$\begin{array}{llll} (8, -5) \quad (3) & (36, 19), \left(\frac{1}{6}, 1\frac{1}{12}\right) \quad (2) & & (8, 3) \quad (1) \\ \left(16, \frac{1}{3}\right) \quad (6) & (25, 8) \quad (5) & & (16, 7) \quad (4) \\ (4, 7) \quad (9) & (3, 9), (9, 3) \quad (8) & & (25, 4), (625, 2) \quad (7) \end{array}$$

מערכת משוואות לוגריתמיות ומעריכיות:

שאלות:

פתור את מערכות המשוואות הבאות:

$$\begin{cases} 25^y = (5\sqrt{5})^{x+1} \\ \log_5 \sqrt{x} + \log_5 \sqrt{y} = \log_5 3 \end{cases} \quad (2) \quad \begin{cases} y = \log_2(4^x - 2) \\ y = 2x - 1 \end{cases} \quad (1)$$

$$\begin{cases} x \cdot \log_2 3 = \frac{y}{\log_9 2} \\ \log_3(9^x + 27) = 2y + \log_3 12 \end{cases} \quad (4) \quad \begin{cases} 3y + 5 \log_6 x = 1 \\ 216 \cdot x^{2-y} = 6^{1-4y} \end{cases} \quad (3)$$

$$\begin{cases} x = \log_4(5 - 9^y) \\ \log_2(2^x + 3) = \log_4(29 - (3^y - 3)^2) \end{cases} \quad (6) \quad \begin{cases} (2^x - 1)^2 - 4y + 3 = 0 \\ x = \log_2(y + 1) \end{cases} \quad (5)$$

תשובות סופיות:

$$(36, -3), \left(6, -1\frac{1}{3}\right) \quad (3) \quad (3, 3) \quad (2) \quad (1, 1) \quad (1)$$

$$(1, 0) \quad (6) \quad (1, 1), (2, 3) \quad (5) \quad \left(1, \frac{1}{2}\right), (2, 1) \quad (4)$$

אי-שוויונים לוגריתמים:

סיכום כללי:

פתרון אי-השוויון: $\log_a x > \log_a y$ הוא: $x > y$ עבור: $a > 1$ ו- $x < y$ עבור: $0 < a < 1$.

שאלות:

פתור את אי-השוויונים הבאים:

$\log_6(x^2 - 5x) < 1$ (2)	$\log_2 x < \log_2(5x - 20)$ (1)
$\log_{\frac{1}{2}}(1 - 3x) \geq \log_{\frac{1}{2}}(7 - x)$ (4)	$\log_3 x > \log_9(15 - 2x)$ (3)
$\ln x < 3$ (6)	$\ln x \geq \ln(x^2 - 12)$ (5)
$\frac{6}{\ln^2 x} \geq 2 - \frac{1}{\ln x}$ (8)	$\ln^2 x - 6 \ln x < 7$ (7)

תשובות סופיות:

$-1 < x < 0, 5 < x < 6$ (2)	$x > 5$ (1)
$-3 \leq x \leq \frac{1}{3}$ (4)	$3 < x < 7\frac{1}{2}$ (3)
$0 < x < e^3$ (6)	$2\sqrt{3} < x \leq 4$ (5)
$x \neq 1$ וגם $\frac{1}{\sqrt{e^3}} \leq x \leq e^2$ (8)	$\frac{1}{e} < x < e^7$ (7)

מכינה במתמטיקה להנדסת מכונות

פרק 11 - סדרות

תוכן העניינים

159	1. הקדמה כללית
166	2. סדרה חשבונית
171	3. סדרה הנדסית
173	4. סדרות מעורבות
179	5. סדרה הנדסית אינסופית מתכנסת
	6. סדרת נסיגה

סדרה חשבונית:

סיכום כללי:

- נוסחת האיבר הכללי:

נוסחת האיבר הכללי של סדרה חשבונית המתחילה באיבר a_1 והפרשה הוא d נתונה ע"י: $a_n = a_1 + d(n-1)$, כאשר: n הוא מיקום האיבר שערכו a_n בסדרה.

- כלל נסיגה של סדרה חשבונית:

כלל נסיגה של סדרה חשבונית a_n שהפרשה הוא d ואיברה הראשון הוא a_1 נתון ע"י: $a_{n+1} - a_n = d$.

- נוסחת הסכום של סדרה חשבונית:

סכום n האיברים הראשונים של סדרה חשבונית a_n שהפרשה הוא d ואיברה

הראשון הוא a_1 נתון ע"י: $S_n = \frac{n(a_1 + a_n)}{2}$.

בהצבת נוסחת האיבר הכללי מקבלים: $S_n = \frac{n(2a_1 + d(n-1))}{2}$.

שאלות:

- (1) נתונה הסדרה החשבונית: $17, 11, 5, -1, -7, \dots$. מצא את האיבר האחרון בסדרה אם ידוע שיש בה 43 איברים.
- (2) בסדרה חשבונית האיבר השישי הוא 15 והאיבר העשירי הוא 31. מצא מהו האיבר הראשון בסדרה ומהו הפרש הסדרה.
- (3) מצא כמה איברים יש בסדרה החשבונית: $2, 4.5, 7, 9.5, 12, 14.5, \dots, 49.5$.

- (4) בסדרה חשבונית סכום האיברים השני, החמישי והשמיני הוא 87 וההפרש בין האיבר השנים-עשר לאיבר השישי הוא 24. מצא כמה איברים בסדרה אם ידוע שהאיבר האחרון בה הוא 201.
- (5) תחביב אחה"צ של שימי הפרעוש הוא לקפוץ על טומי הכלב. מנהגו של שימי הוא לקפוץ בדקה הראשונה 4 קפיצות ובכל דקה שאחריה לקפוץ 3 קפיצות יותר מדקה הקודמת. כמה דקות אורך תחביב אחה"צ של שימי אם ידוע שבדקה האחרונה הוא קופץ 46 קפיצות?
- (6) כמה מספרים תלת ספרתיים שמתחלקים ב-6 יש בין 201 ל-550?
- (7) כמה איברים חיוביים ישנם בסדרה החשבונית: $91, 88, 85, 82, \dots$.
- (8) מצא את ערכו של x אם ידוע שהאיברים הבאים הם איברים עוקבים בסדרה חשבונית: $x-3, 3x-4, x^2-1$.
- (9) נתונה סדרה המוגדרת באמצעות כלל הנסיגה הבא:
$$\begin{cases} a_{n+1} = a_n + 3 \\ a_1 = 5 \end{cases}$$
 הוכח שהסדרה חשבונית ומצא מהו האיבר התשעה-עשר שלה.
- (10) בסדרה חשבונית $a_1, a_2, a_3, \dots, a_n$ ידוע כי סכום ארבעת האיברים הראשונים וסכום האיברים ה-6 עד ה-9 הם מספרים נגדיים.
- א. הוכח: $a_5 = 0$.
- ב. נתון: $a_3 - a_{11} = 24$. מצא את a_1 ואת d .
- ג. מגדירים סדרה חשבונית חדשה b_n המקיימת: $b_n = 2a_n - 3$. מצא את ערך האיבר השלילי הראשון בסדרה ואת מיקומו הסידורי.
- (11) מצא את סכום ארבעה-עשר האיברים הראשונים בסדרה החשבונית: $-3, 2, 7, 12, \dots$.

- (12) נתונה הסדרה החשבונית: $5, -1, -7, -13, \dots$. כמה איברים יש לחבר בסדרה (החל מהראשון) כדי להגיע לסכום של 987?
- (13) תחביב אחה"צ של מימי הפרעושה הוא לקפוץ על טומי הכלב. מנהגה של מימי הוא לקפוץ בדקה הראשונה 11 קפיצות ובכל דקה שאחריה לקפוץ 2 קפיצות יותר מדקה הקודמת. כמה דקות אורך תחביב אחה"צ של מימי אם ידוע שבכל אחה"צ היא קפצה 416 קפיצות?
- (14) נתונה הסדרה החשבונית: $63, -67, -71, \dots$. כמה איברים לכל הפחות יש לחבר בסדרה כדי שהסכום המתקבל יהיה חיובי?
- (15) נתונה הסדרה החשבונית: $4, 13, 22, 31, \dots$. בסדרה יש 36 איברים. חשב את סכום ארבעה-עשר האיברים האחרונים בסדרה.
- (16) נתונה הסדרה החשבונית: $4, 9, 14, 19, \dots, 599$. מחקו כל איבר שלישי בסדרה. מצא את סכום האיברים שנתרו.
- (17) סכום n האיברים האחרונים בסדרה חשבונית בת $3n$ איברים גדול ב-1024 מסכום n האיברים הראשונים שבה.
 א. בטא את n באמצעות הפרש הסדרה, d .
 ב. נתון כי הפרש הסדרה הוא 8. כמה איברים בסדרה?
- (18) נתונה סדרה שבה $S_n = 2n^2 + 4n$.
 א. מצא את ערכם של שלושת האיברים הראשונים בסדרה.
 ב. הוכח כי הסדרה חשבונית ומצא את הפרשה.
- (19) בסדרה חשבונית ידוע כי סכום האיברים העומדים במקומות ה-5, ה-7, וה-16 הוא אפס. כמו כן ידוע כי סכום שלושת האיברים הראשונים הוא 132.
 א. מצא את האיבר הראשון בסדרה ואת הפרש הסדרה.
 ב. מצא את האיבר השלילי הראשון בסדרה.
 ג. מצא כמה איברים יש לחבר (החל מהאיבר הראשון) כדי לקבל סכום 210.

$$(20) \quad \left\{ \begin{array}{l} 150, 144, 138, \dots \\ 90, 93, 96, \dots \end{array} \right. : \text{נתונים שני טורים חשבוניים}$$

לשני הטורים אותו מספר איברים. ידוע כי סכום האיברים האחרונים של שני הטורים (האיבר האחרון מהטור הראשון והאיבר אחרון מהטור השני) הוא אפס.

א. מצא את מספר האיברים שבכל טור.

ב. מחברים את n האיברים הראשונים מהטור הראשון יחד עם n

האיברים הראשונים מהטור השני. ידוע כי חיבור הסכומים הוא 3480. מצא את n אם ידוע שהוא קטן מ-20.

(21) נתונות שתי סדרות החשבוניות הבאות: a_n שהפרשה הוא d_1 ו- b_n שהפרשה

$$\text{הוא } d_2. \text{ ידוע כי: } d_1 = -2d_2.$$

סכום 50 האיברים הראשונים של שתי הסדרות שווה והאיבר העומד במקום ה-20 בסדרה a_n גדול ב-1 מהאיבר העומד במקום ה-37 בסדרה b_n .

א. מצא את הפרש הסדרה $a_n - d_1$.

ב. ידוע כי האיבר a_{10} קטן ב-1 מ-5 פעמים האיבר b_{50} .

מצא את a_1 ואת b_1 .

(22) נתונה הסדרה החשבונית: $\dots, -13, -17, -21, \dots$

בסדרה יש 18 איברים. חשב את סכום האיברים הנמצאים במקומות האי-זוגיים ואת סכום האיברים הנמצאים במקומות הזוגיים.

(23) בסדרה חשבונית שהפרשה d ובה $2n$ איברים סכום האיברים במקומות

האי-זוגיים הוא 552 וסכום האיברים במקומות הזוגיים הוא 612.

$$\text{הוכח כי } nd = 60.$$

(24) בסדרה חשבונית עולה, שכל איבריה חיוביים ובה מספר אי-זוגי של איברים,

גדול סכום כל איברי הסדרה פי $1\frac{14}{15}$ מסכום איברי הסדרה הנמצאים

במקומות האי-זוגיים. כמה איברים יש בסדרה?

- (25)** לפניך שלושה איברים סמוכים בסדרה חשבונית: $x-5$, $x-16$, $2x+23$.
- א. ענה על הסעיפים הבאים:
- מצא את x .
 - מצא את הפרש הסדרה.
- ב. ידוע כי: $a_{12} = 0$. מצא את a_1 .
- ג. האיבר האחרון בסדרה הוא: $a_n = 308$.
- מצא את סכום כל האיברים החיוביים העומדים במקומות האי-זוגיים.

- (26)** בסדרה חשבונית שבה מספר זוגי של איברים נתון כי סכום ריבועי האיברים העומדים במקומות ה-4 וה-5 שווה לריבוע האיבר העומד במקום ה-6. האיבר הראשון אינו אפס.
- א. הוכח את הטענות הבאות:
- $a_1 = -4d$
 - $S_9 = 0$
- ב. האיבר העומד במקום ה-6 גדול ב-2 מהאיבר העומד במקום ה-5. מצא את a_1 ואת d .
- ג. מצא את מספר איברי הסדרה אם ידוע כי סכום האיברים העומדים במקומות הזוגיים הוא 504.

- (27)** בסדרה חשבונית שבה $2n$ איברים ידוע כי סכום כל האיברים גדול ב-66 מפעמיים סכום האיברים העומדים במקומות האי-זוגיים.
- א. הוכח כי $nd = 66$.
- ב. ידוע כי הפרש הסדרה הוא 3. הבע באמצעות a_1 את סכום n האיברים הראשונים.
- ג. סכום n האיברים הראשונים הוא 187. מצא את האיבר החיובי הקטן ביותר בסדרה ואת מיקומו הסידורי בסדרה.

- (28)** אדם המעוניין לקנות רכב קיבל שתי הצעות מחיר.
- ההצעה הראשונה :
- לשלם בתשלום הראשון 1000 ₪ ובכל תשלום שאחריו סכום הגדול ב-500 ₪ מהתשלום הקודם.
- ההצעה השנייה :
- לשלם בתשלום הראשון 7200 ₪ ובכל תשלום שאחריו סכום הקטן ב-450 ₪ מהתשלום הקודם.
- ידוע כי מספר התשלומים בהצעה השנייה קטן ב-4 ממספר התשלומים שבהצעה הראשונה.
- א. כמה תשלומים יצטרך לשלם לפי כל הצעה.
- ב. מה מחיר הרכב?

תשובות סופיות:

- (1) $a_{43} = -235$
- (2) $d = 4, a_1 = -5$
- (3) 20 איברים.
- (4) 48 איברים.
- (5) 15 קפיצות.
- (6) 58 מספרים.
- (7) 31 איברים חיוביים.
- (8) $x = 4, x = 1$
- (9) $a_{19} = 59$
- (10) א. הוכחה.
- (11) $S_{14} = 413$
- (12) 21 איברים.
- (13) 16 דקות.
- (14) 37 איברים.
- (15) 3647
- (16) 23920
- (17) א. $n = \sqrt{\frac{512}{d}}$
- (18) א. $a_1 = 6, a_2 = 10, a_3 = 14$ ב. $d = 4$
- (19) א. $a_1 = 50, d = -6$ ב. $a_{10} = -4$ ג. $n = 6$
- (20) א. $n = 81$ ב. $n = 16$
- (21) א. $d_1 = 4$ ב. $a_1 = -52, b_1 = 95$
- (22) אי-זוגיים: $S = 99$ זוגיים: $S = 135$
- (23) שאלת הוכחה.
- (24) 29 איברים.
- (25) א. i. $x = -50$ א. ii. $d = 11$ ב. $a_1 = -121$ ג. $S = 2156$
- (26) א. הוכחה. ב. $a_1 = -8, d = 2$ ג. $n = 36$
- (27) א. הוכחה. ב. $S = 22a_1 + 693$ ג. $a_9 = 1$
- (28) א. 12 לפי ההצעה הראשונה ו-8 לפי ההצעה השנייה. ב. 45000 שח.

סדרה הנדסית:

סיכום כללי:

- נוסחת האיבר הכללי:

נוסחת האיבר הכללי של סדרה הנדסית המתחילה באיבר a_1 ומנתה היא q נתונה ע"י הנוסחה: $a_n = a_1 q^{n-1}$, כאשר: n הוא מיקום האיבר שערכו a_n בסדרה.

- כלל נסיגה של סדרה הנדסית:

כלל נסיגה של סדרה הנדסית a_n שמנתה היא q ואיברה הראשון הוא a_1 נתון ע"י הקשר הבא: $a_{n+1} = a_n \cdot q$.

- נוסחת הסכום של סדרה הנדסית:

סכום n האיברים הראשונים של סדרה הנדסית a_n שמנתה היא q ואיברה

$$\text{הראשון הוא } a_1 \text{ נתון ע"י: } S_n = \frac{a_1(q^n - 1)}{q - 1}.$$

שאלות:

(1) נתונה הסדרה ההנדסית: $\frac{1}{9}, \frac{1}{3}, 1, 3, \dots$

מצא את האיבר האחרון בסדרה אם ידוע שיש בה 9 איברים.

(2) מצא כמה איברים יש בסדרה ההנדסית: $\frac{9}{64}, \frac{3}{16}, \frac{1}{4}, \dots, \frac{64}{81}$

(3) בסדרה הנדסית האיבר השישי הוא 8 והאיבר העשירי הוא 128. מצא מהו האיבר הראשון בסדרה ומהי מנת הסדרה.

(4) בסדרה הנדסית ההפרש בין האיבר השביעי לאיבר החמישי הוא 432 וההפרש בין האיבר החמישי לשלישי הוא 48. מצא מהו האיבר הראשון בסדרה ומהי מנת הסדרה.

- (5) בסדרה הנדסית עולה ההפרש בין האיבר השמיני לאיבר הרביעי הוא 3120 וסכום האיברים השני והרביעי הוא 5.2. מצא מהו האיבר הראשון בסדרה ומהי מנת הסדרה.
- (6) תחביב אחה"צ של שימי הפרעוש הוא לקפוץ על טומי הכלב. מנהגו של שימי הוא לקפוץ בדקה הראשונה 4 קפיצות ובכל דקה שאחריה לקפוץ פי 3 קפיצות מדקה הקודמת. כמה דקות אורך תחביב אחה"צ של שימי אם ידוע שבדקה האחרונה הוא קופץ 324 קפיצות?
- (7) מצא את ערכו של x אם ידוע שהאיברים הבאים הם איברים עוקבים בסדרה הנדסית: $x-6, x+4, 4x+1$. מצא גם את מנת הסדרה.
- (8) נתונה סדרה המוגדרת באמצעות כלל הנסיגה הבא:
$$\begin{cases} a_{n+1} = 2a_n \\ a_1 = 3 \end{cases}$$
 הוכח שהסדרה הנדסית ומצא מהו האיבר השמיני בה.
- (9) מצא את סכום תשעת האיברים הראשונים בסדרה ההנדסית: $5, 10, 20, 40, \dots$.
- (10) תחביב אחה"צ של מימי הפרעושה הוא לקפוץ על טומי הכלב. מנהגו של מימי הוא לקפוץ בדקה הראשונה 2 קפיצות ובכל דקה שאחריה לקפוץ פי 5 קפיצות מדקה הקודמת. כמה דקות אורך תחביב אחה"צ של מימי אם ידוע שבכל אחה"צ היא קפצה 1562 קפיצות?
- (11) סכום n האיברים האחרונים בסדרה הנדסית בת $3n$ איברים שמנתה 2, גדול פי 256 מסכום n האיברים הראשונים בה. כמה איברים בסדרה?
- (12) בסדרה הנדסית עולה שבה n איברים, סכום $n-3$ האיברים האחרונים גדול פי 8 מסכום $n-3$ האיברים הראשונים בה. מצא את מנת הסדרה.
- (13) סכום כל האיברים בסדרה הנדסית הוא 252. האיבר האחרון בסדרה גדול ב-120 מהאיבר השני בה. מצא כמה איברים יש בסדרה אם ידוע שמנתה 2.

14 המספרים: $2x-3$, $x-9$, $x-13$ הם שלושת האיברים הראשונים בסדרה הנדסית עולה שכל איבריה חיוביים.

- א. מצא את x .
 ב. ענה על הסעיפים הבאים:
 i. כתוב את נוסחת האיבר הכללי בסדרה זו.
 ii. מצא שני איברים סמוכים בסדרה שסכומם הוא 18750.
 ג. ידוע כי האיבר האחרון בסדרה הוא: $a_n = 5^{11}$.
 מצא את סכום 7 האיברים האחרונים בסדרה.

15 נתונה הסדרה ההנדסית הבאה: $a_1, 4, 12, 36, \dots, a_{n+1}$. מוסיפים לכל איבר בסדרה זו שישית מהאיבר הבא אחריו ויוצרים סדרה חדשה b_n באופן הבא:

$$b_1 = a_1 + \frac{a_2}{6}, \quad b_2 = a_2 + \frac{a_3}{6}, \quad b_3 = a_3 + \frac{a_4}{6}, \quad \dots, \quad b_n = a_n + \frac{a_{n+1}}{6}$$

- א. הוכח כי הסדרה b_n היא סדרה הנדסית ומצא את מנתה.
 ב. הראה כי היחס בין סכום n האיברים הראשונים של הסדרה a_n ובין סכום n האיברים הראשונים של הסדרה b_n הוא $\frac{2}{3}$.
 ג. מצא שני איברים סמוכים בסדרה b_n שסכומם מהווה $\frac{2}{9}$ מ- a_8 .

16 נתונה הסדרה ההנדסית: $7, 14, 28, \dots$.

בסדרה יש 8 איברים. חשב את סכום האיברים הנמצאים במקומות האי-זוגיים ואת סכום האיברים הנמצאים במקומות הזוגיים.

17 בסדרה הנדסית ובה $2n$ איברים סכום האיברים במקומות הזוגיים גדול פי 4 מסכום האיברים במקומות האי-זוגיים. חשב את מנת הסדרה.

18 נתונה סדרה הנדסית שמנתה q ובה מספר זוגי של איברים. בטא באמצעות q את היחס בין סכום איברי הסדרה כולה לסכום האיברים הנמצאים במקומות הזוגיים שבה.

19 בסדרה הנדסית שבה $2n+1$ איברים, סכום n האיברים הראשונים קטן פי 9 מסכום n האיברים הבאים אחריהם. האיבר האחרון בסדרה גדול ב-30 מהאיבר הראשון שבה. מצא את האיבר הראשון בסדרה.

20) ענה על הסעיפים הבאים :

- א. הראה כי בסדרה הנדסית שבה $2n$ איברים היחס בין סכום האיברים העומדים במקומות האי-זוגיים לבין סכום כל איברי הסדרה תלוי במנת בסדרה.
- בסדרה הנדסית שבה מספר זוגי של איברים ידוע כי סכום כל האיברים העומדים במקומות האי-זוגיים קטן פי 4 מסכום כל איברי הסדרה. האיבר הראשון בסדרה זו קטן ב-2 ממנת הסדרה.
- ב. כתוב נוסחה לאיבר כללי של סדרה זו.
- ג. מצא שני איברים סמוכים בסדרה שסכומם הוא 324.

- 21) בסדרה הנדסית שבה 12 איברים סכום כל איברי הסדרה גדול פי 3 מסכום האיברים כאשר מחליפים את סימני כל האיברים העומדים במקומות האי-זוגיים.
- א. מצא את מנת הסדרה.
- ב. ידוע כי ההפרש בין האיבר החמישי לאיבר הרביעי בסדרה הוא 8. מצא את האיבר הראשון בסדרה.
- ג. חשב את סכום כל האיברים העומדים במקומות הזוגיים בסדרה.

- 22) באחת ממדינות המזרח היה מלך שאהב משחקי חשיבה. לכבוד יום הולדתו הכין לו השר הבכיר שבממלכתו משחק מיוחד המכיל 25 משבצות ו-2 חיילי משחק. המלך, מרוב התלהבות ושמחה לא ידע כיצד לגמול לשר החכם ושאל אותו מה ירצה בתמורה. השר סרב לקבל דבר על מתנתו עד שלבסוף החליט המלך לתת לשר מחצית מכל אוצרות הממלכה המונים כ-40 מיליון אבנים יקרות. לאחר ששמע על כך השר, הוא החליט לאתגר את המלך והעלה את ההצעה הבאה :
- תן לי אבן יקרה אחת והכפל אותה בכל משבצת שבמשבצות המשחק באופן הבא : כנגד המשבצת הראשונה - אבן אחת, כנגד השנייה - שתי אבנים, כנגד השלישית - ארבע אבנים וכן הלאה...
- המלך הסכים להצעה.
- א. כמה אבנים המלך ייתן לשר כנגד המשבצת האחרונה במשחק?
- ב. העזר בכמות האבנים שברשותו של השר וקבע האם הצעתו שוות-ערך יותר מהחלטת המלך לתת לו מחצית מאוצרות הממלכה.
- ג. סמוך לפני שנתן המלך את האבנים לשר, הציעה בתו של המלך הצעה נוספת והיא : תן עבור כל משבצת זוגית 2^n אבנים, כאשר n הוא מספר המשבצת. האם כדאי למלך לקבל את הצעת בתו או להישאר עם ההצעה המקורית של השר?

תשובות סופיות:

(1) $a_9 = 729$

(2) $n = 7$

(3) $a_1 = \pm \frac{1}{4}, q = \pm 2$

(4) $a_1 = \frac{2}{3}, q = \pm 3$

(5) $a_1 = \frac{1}{25}, q = 5$

(6) 5 דקות.

(7) $x = -\frac{2}{3} \rightarrow q = -\frac{1}{2}, x = 11 \rightarrow q = 3$

(8) $a_8 = 384$

(9) $S_9 = 2555$

(10) 5 דקות.

(11) יש 12 איברים בסדרה. $n = 4$

(12) $q = 2$

(13) $n = 6$

(14) א. $x = 14$ ב. i. $a_n = 5^{n-1}$ ב. ii. a_6, a_7 ג. $S_7^* = 61,034,375$

(15) א. $q = 3$ ג. b_5, b_6

(16) אי-זוגיים: $S = 595$, זוגיים: $S = 1190$

(17) $q = 4$

(18) $\frac{q+1}{q}$

(19) $a_1 = \frac{3}{8}$

(20) א. $\frac{S_{n(o)}}{S_{2n}} = \frac{1}{q+1}$ ב. $a_n = 3^{n-1}$ ג. a_5, a_6

(21) א. $q = 2$ ב. $a_1 = 1$ ג. $S_{6(p)} = 2730$

(22) א. $a_{25} = 16,777,216$

ב. לפי הצעת השר יהיו לו 33,554,431 אבנים ולפי הצעת המלך יהיו

ג. $2^{24}, 4, 16, 64, \dots$ לו 20,000,000 אבנים. $S_n = 22,369,620$

סדרות מעורבות:

שאלות:

- (1) נתונים שלושה איברים עוקבים בסדרה הנדסית שמנתה 3. אם נכפול את המספר הראשון ב-3, נוסיף למספר השני 4 ונחסיר מהמספר השלישי 4 תתקבל סדרה חשבונית. מצא את המספרים.
- (2) נתונות שתי סדרות שמתחילות במספר 2 ובשתיהן 3 איברים. סדרה אחת היא חשבונית והשנייה הנדסית. האיבר השלישי בשתי הסדרות זהה והאיבר השני בסדרה ההנדסית קטן ב-4 מהאיבר השני בסדרה החשבונית. מצא את מנת הסדרה ההנדסית.
- (3) נתונים ארבעה מספרים בעלי התכונות הבאות:
 הראשון, השני והרביעי מהווים שלושה איברים עוקבים בסדרה הנדסית שמנתה 2.
 הראשון, השלישי והרביעי מהווים שלושה איברים עוקבים בסדרה חשבונית וסכומם $22\frac{1}{2}$. מצא את ארבעת המספרים.
- (4) ההפרש של סדרה חשבונית שווה למנה של סדרה הנדסית עולה. האיבר הראשון בסדרה ההנדסית הוא 6 וידוע כי סכום 2 האיברים הראשונים בסדרה החשבונית שווה לסכום שני האיברים הראשונים בסדרה ההנדסית. האיבר השלישי בסדרה ההנדסית גדול פי 2 מהאיבר השלישי בסדרה החשבונית.
 א. מצא את שלושת האיברים של הסדרה החשבונית.
 ב. מצא כמה איברים יש לחבר בסדרה החשבונית החל מהאיבר הראשון כדי לקבל את הסכום 60.
 ג. מצא את מיקומו הסידורי של איבר בסדרה ההנדסית הגדול פי 12 מהאיבר האחרון שחובר בסכום הסדרה החשבונית שחישבת בסעיף הקודם.
- (5) נתונות שתי הסדרות הבאות: סדרה חשבונית: a_1, a_2, a_3, \dots וסדרה הנדסית: b_1, b_2, b_3, \dots . ידוע כי האיבר הראשון בשתי הסדרות שווה. האיבר השלישי בסדרה ההנדסית גדול פי 4 מהאיבר הראשון בסדרה החשבונית.
 א. מצא את מנת הסדרה ההנדסית אם ידוע כי היא אינה עולה.
 ב. נתון גם כי האיבר החמישי בסדרה ההנדסית שווה לאיבר הרביעי בסדרה החשבונית. הוכח כי הפרש הסדרה החשבונית גדול פי 5 מהאיבר הראשון.
 ג. בכל סדרה יש 10 איברים. הסכום של כל האיברים של שתי הסדרות יחד הוא 212. מצא את האיבר הראשון של שתי הסדרות.

תשובות סופיות:

- (1) המספרים הם : 2, 6, 18.
- (2) $q = 3$ או $q = -1$.
- (3) המספרים הם : 3, 6, 7.5, 12.
- (4) א. 8, 10, 12 ב. 5 ג. 6.
- (5) א. $q = -2$ ג. $a_1 = 2$.

סדרה הנדסית אינסופית מתכנסת:

סיכום כללי:

• הגדרה:

סדרה הנדסית a_n המקיימת: $|q| < 1$, $(q \neq 0)$ נקראת סדרה הנדסית אינסופית מתכנסת.

• נוסחת הסכום של סדרה הנדסית אינסופית מתכנסת:

הסכום של סדרה הנדסית אינסופית מתכנסת a_n ניתן לחישוב ע"י שימוש בכלל: $\lim_{n \rightarrow \infty} q^n = 0$ והצבתו בנוסחת הסכום של סדרה הנדסית.

$$. S = \frac{a_1}{1-q} \quad \text{מתקבל הכלל הבא:}$$

• סכום סופי של איברים בסדרה הנדסית אינסופית מתכנסת:

○ כאשר מתבקשים לחשב סכום של n איברים ראשונים בסדרה הנדסית אינסופית מתכנסת יש להשתמש בנוסחת הסכום הרגילה: $. S_n = \frac{a_1(q^n - 1)}{q - 1}$

○ כאשר מתבקשים לחשב סכום של n איברים בסדרה הנדסית אינסופית מתכנסת המתחילים באיבר a_k יש להשתמש בנוסחת הסכום הרגילה

$$. S_n = \frac{a_k(q^n - 1)}{q - 1} \quad \text{באופן הבא:}$$

שאלות:

(1) מצא את סכום כל איברי הסדרה ההנדסית הבאה: $12, 4, 1\frac{1}{3}, \dots$

(2) סכום כל איברי סדרה הנדסית אינסופית שמנתה $\frac{1}{4}$ הוא 32. מצא את האיבר הראשון בסדרה.

(3) נתונה סדרה הנדסית אינסופית יורדת שסכומה 62.5. ידוע כי האיבר השני בסדרה הוא 10. מצא את האיבר הראשון ואת מנת הסדרה (שתי אפשרויות).

(4) האיבר הראשון בסדרה הנדסית אינסופית יורדת הוא 14. סכום האיברים במקומות הזוגיים הוא $9\frac{1}{3}$. מצא את סכום האיברים במקומות האי-זוגיים.

***הערה:** שתי השאלות הבאות מסכמות את סוגי הסכומים וייצוג סדרות שונות באמצעות סדרה נתונה כפי שמקובל בנושא זה ואינן מייצגות אורך של שאלת בגרות.

(5) נתונה סדרה הנדסית אינסופית מתכנסת a_n שמנתה q , $(q \neq 0, |q| < 1)$, מגדירים שלוש סדרות חדשות: b_n, c_n ו- d_n באופן הבא:

d_n	c_n	b_n	הסדרה:
$d_1 = S_a + a_1$	$c_1 = a_2^2 - a_1^2$	$b_1 = a_1$	הכלל:
$d_2 = S_a + a_2$	$c_2 = a_3^2 - a_2^2$	$b_2 = a_1 + a_2$	
$d_3 = S_a + a_3$	$c_3 = a_4^2 - a_3^2$	$b_3 = a_1 + a_2 + a_3$	
\vdots	\vdots	\vdots	
$d_n = S_a + a_n$	$c_n = a_{n+1}^2 - a_n^2$	$b_n = a_1 + a_2 + a_3 + \dots + a_n = S_{a(n)}$	

הסכום S_a הוא סכום הסדרה a_n , והסכום $S_{a(n)}$ הוא סכום n האיברים הראשונים של הסדרה a_n .

- א. קבע אלו מבין הסדרות b_n , c_n ו- d_n הן הנדסיות והבע את מנתן ע"י q .
- ב. הבע באמצעות a_1 בלבד את סכום הסדרה ההנדסית שמצאת בסעיף הקודם.
- ג. מסמנים את סכום ריבועי האיברים של הסדרה ההנדסית שמצאת בסעיף א' ב- $S_{(s)}$. הוכח כי לא קיים ערך של q עבורו סכום ריבועי האיברים $S_{(s)}$, שווה לסכום הסדרה הנ"ל בריבוע.

6 נתונה סדרה הנדסית אינסופית יורדת: a_n שמנתה q . מגדירים סדרה חדשה b_n באופן הבא:

$$b_1 = S_1^* = \frac{a_1}{1-q}, b_2 = S_2^* = \frac{a_2}{1-q}, b_3 = S_3^* = \frac{a_3}{1-q}, \dots, b_n = S_n^* = \frac{a_n}{1-q}, \dots$$

כאשר: S_n^* מייצג את סכום הסדרה a_n החל מהאיבר a_n (ועד אינסוף).

- א. הוכח כי הסדרה b_n היא גם הנדסית אינסופית יורדת וכתוב את נוסחת האיבר הכללי שלה באמצעות a_1 ו- q .
- ב. ידוע כי סכום הסדרה b_n הוא 126 וכי סכום 8 האיברים הראשונים בסדרה a_n גדול פי 6560 מהאיבר התשיעי בסדרה b_n . מצא את a_1 ו- q .
- ג. היעזר בסעיף הקודם והוכח כי מתקיים: $b_2 + b_3 + \dots + b_n + \dots = 42$.
- ד. חשב את סכום האיברים העומדים במקומות הזוגיים בסדרה b_n .
- ה. חשב את סכום האיברים העומדים במקומות האי-זוגיים בסדרה b_n .
- ו. מחליפים את סימני האיברים העומדים במקומות האי-זוגיים בסדרה b_n כך שנוצרת הסדרה: b_n^* . חשב את סכום הסדרה b_n^* .
- ז. מחליפים את סימני האיברים העומדים במקומות הזוגיים בסדרה b_n כך שנוצרת הסדרה: b_n^{**} . חשב את סכום הסדרה b_n^{**} .
- ח. מעלים בריבוע את כל איברי הסדרה b_n . מסמנים את הסכום המתקבל ב- $S_{(s)}$ (מלשון: square). כמו כן, מסמנים את סכום הסדרה המקורית ב- S_b . הראה כי: $S_b^2 \neq S_{(s)}$.
- ט. הוכח כי היחס בין סכום איברי הסדרה a_n וסכום איברי הסדרה b_n הוא $\frac{2}{3}$.

- (7) נתונה סדרה הנדסית אינסופית יורדת שסכומה 24. מאיברי הסדרה הנתונה יצרו את סדרה חדשה באופן הבא: $a_1 + a_2, a_2 + a_3, a_3 + a_4, a_4 + a_5, \dots$.
- א. הוכח שהסדרה החדשה היא הנדסית אינסופית יורדת.
 ב. ידוע שסכום כל איברי הסדרה החדשה הוא 32.
 מצא את האיבר הראשון והמנה של הסדרה המקורית.
- (8) בסדרה הנדסית אינסופית יורדת a_n ידוע כי סכום האיברים העומדים במקומות האי-זוגיים גדול פי $1\frac{2}{3}$ מסכום האיברים העומדים במקומות הזוגיים.
- א. מצא את מנת הסדרה.
 מחברים כל שני איברים סמוכים בסדרה הנתונה ויוצרים סדרה חדשה b_n .
- ב. הוכח כי הסדרה b_n גם היא הנדסית יורדת ומצא את מנתה.
 ג. הראה כי סכום הסדרה b_n שווה לסכום הסדרה a_n .
 ד. סכום שתי הסדרות יחד הוא 1000. מצא את האיבר הראשון בסדרה a_n .
- (9) נתונה סדרה הנדסית אינסופית a_1, a_2, a_3, \dots שמנתה היא q , $(0 < q < 1)$. נגדיר את הסכומים הבאים: $T = a_1 + a_2 + a_5 + a_6 + a_9 + a_{10} + \dots$, $V = a_3 + a_7 + a_{11} + \dots$. נתון כי: $T = 6V$.
- א. מצא את מנת הסדרה q .
 ב. פי כמה קטן V מסכום כל האיברים העומדים במקומות האי-זוגיים בסדרה?
 ג. מצא את האיבר הראשון אם ידוע כי סכום האיברים העומדים במקומות האי-זוגיים הוא $1365\frac{1}{3}$.
- (10) נתונה הסדרה ההנדסית הבאה: $a_1, a_2, a_3, \dots, a_{2n}$ שמנתה היא q . בונים סדרה חדשה מריבועי כל האיברים הסדרה באופן הבא: $a_1^2, a_2^2, a_3^2, \dots, a_{2n}^2$.
- א. הוכח כי היחס בין סכום n האיברים הראשונים בסדרת הריבועים ובין סכום כל האיברים העומדים במקומות האי-זוגיים בסדרה הנתונה תלוי רק באיבר הראשון של הסדרה.
 בסדרה הנדסית אינסופית יורדת שסכומה 640 ידוע כי סכום 10 האיברים הראשונים כאשר מעלים אותם בריבוע גדול פי 320 מסכום 10 האיברים הראשונים העומדים במקומות האי-זוגיים בסדרה.
 ב. מצא את מנת הסדרה.
 ג. מחברים את כל איברי הסדרה החל מאיבר a_n כלשהו.
 ידוע כי סכום זה קטן פי 16 מסכום הסדרה המקורי. מצא את האיבר a_n .

- 11** נתונה סדרה הנדסית אינסופית a_1, a_2, a_3, \dots שמנתה היא q , $(q \neq 0, |q| < 1)$.
- נגדיר את הסכומים הבאים: $T = a_1 + a_3 + a_6 + a_8 + a_{11} + a_{13} + \dots, V = a_2 + a_7 + a_{12} + \dots$.
- נתון כי: $V = 0.3T$.
- א. מצא את מנת הסדרה q .
 מחליפים את הסימנים של כל האיברים העומדים במקומות האי-זוגיים ומתקבלת סדרה חדשה שסכומה הוא 12.
- ב. מצא את האיבר הראשון בסדרה המקורית.
- ג. מעלים את כל איברי הסדרה בריבוע. חשב את סכום הסדרה כעת.

תשובות סופיות:

$$. S = 18 \quad (1)$$

$$. a_1 = 24 \quad (2)$$

$$. q = \frac{4}{5}, a_1 = 12 \frac{1}{2} \text{ או } q = \frac{1}{5}, a_1 = 50 \quad (3)$$

$$. S = 18 \frac{2}{3} \quad (4)$$

$$\frac{b_{n+1}}{b_n} = \frac{S_{n+1}}{S_n} = \frac{S_{n+1}}{S_n} = \frac{a_{n+1}(q^{n+1}-1)}{a_n(q^n-1)} = \frac{a_{n+1}(q^{n+1}-1)}{a_n(q^n-1)} = q \cdot \frac{q^{n+1}-1}{q^n-1} : b_n \text{ הסדרה } (5)$$

היות והיא תלויה ב- n היא אינה הנדסית.

$$. \frac{c_{n+1}}{c_n} = \frac{a_{n+2}^2 - a_{n+1}^2}{a_{n+1}^2 - a_n^2} = \frac{a_n^2 q^4 - a_n^2 q^2}{a_n^2 q^2 - a_n^2} = \frac{a_n^2 q^2 (q^2 - 1)}{a_n^2 (q^2 - 1)} = q^2 : c_n \text{ הסדרה הנדסית: } (6)$$

$$\frac{b_{n+1}}{b_n} = \frac{S + a_{n+1}}{S + a_n} = \frac{\frac{a_1}{1-q} + a_{n+1}}{\frac{a_1}{1-q} + a_n} = \frac{a_1 + (1-q)a_{n+1}}{a_1 + (1-q)a_n} = \frac{a_1(1 + (1-q)q^n)}{a_1(1 + (1-q)q^{n-1})} = \frac{q^n - q^{n+1} + 1}{q^{n-1} - q^n + 1} : d_n \text{ הסדרה}$$

$$. S_{(c_n)} = \frac{c_1}{1-q_c} = \frac{a_2^2 - a_1^2}{1-q^2} = \frac{a_1^2(q^2-1)}{1-q^2} = -a_1^2 \text{ ב. } (7)$$

ג. מההשוואה: $S_{(s)} = S^2$ מקבלים כי פתרון המשוואה הוא: $q = 0, \pm 1$.

כולם נפסלים מכיוון שמנת הסדרה הנתונה a_n היא שבר.

עבור $|q| > 1$ הסדרות אינן מתכנסות ולכן לא קיים ערך של q עבורו

השוויון יתקיים. מש"ל.

$$31.5 \text{ ד. } \quad \text{ג. הוכחה.} \quad \text{ב. } a_1 = 56, q = \frac{1}{3} \quad \text{א. } b_n = \frac{a_1}{1-q} q^{n-1} \quad (8)$$

$$7938 \text{ ה. } \quad 63 \text{ ו. } \quad -63 \text{ ז. } \quad 94.5$$

$$. (b_1 + b_2 + \dots + b_n + \dots)^2 : \text{משמעו: } (9)$$

הסכום: $S_{(s)}$ משמעו: $b_1^2 + b_2^2 + \dots + b_n^2 + \dots$. ברור כי הביטויים אינם שווים.

$$. q = \frac{1}{3}, a_1 = 16 \text{ ב. } \quad \text{א. הוכחה.} \quad (10)$$

$$a_1 = 200 \text{ ד. } \quad \frac{b_{n+1}}{b_n} = \frac{a_{2n+1} + a_{2n+2}}{a_{2n-1} + a_{2n}} = q^2 \text{ ב. } \quad \text{א. } q = 0.6 \quad (11)$$

$$a_1 = 1024 \text{ ג. } \quad \text{ב. פי 5} \quad \text{א. } q = \frac{1}{2} \quad (12)$$

$$. a_5 = 20 \text{ ג. } \quad \text{ב. } q = 0.5 \quad \text{א. הוכחה.} \quad (13)$$

$$. S = 288 \text{ ג. } \quad \text{ב. } a_1 = -16 \quad \text{א. } q = \frac{1}{3} \quad (14)$$

סדרת נסיגה:

שאלות:

$$(1) \quad \begin{cases} a_{n+1} = a_n + 2n - 11 \\ a_1 = -6 \end{cases} \quad \text{נתונה סדרה המוגדרת על פי כלל הנסיגה הבא:}$$

- א. מצא את האיבר השלישי בסדרה.
 ב. נתון כי האיבר השלושה-עשר בסדרה הוא 18. מצא את a_{12} ו- a_{14} .
 ג. נתון כי האיבר השלושים ואחת בסדרה הוא k .
 הבע באמצעות k את a_{30} ו- a_{32} .
 ד. מצא את מיקומם של שני איברים סמוכים בסדרה שההפרש ביניהם הוא 133.
 ה. הסבר מדוע אין שני איברים סמוכים בסדרה שההפרש ביניהם הוא 62.

$$(2) \quad \begin{cases} a_{n+1} = a_n + 2n \\ a_1 = 0 \end{cases} \quad \text{נתונה סדרה המוגדרת על פי כלל הנסיגה הבא:}$$

נתון כי $a_k = 72$. הבע באמצעות k את a_{k+2} .

$$(3) \quad \begin{cases} a_{n+1} = 2a_n + n^2 - 31 \\ a_7 = t \end{cases} \quad \text{נתונה סדרה המוגדרת על פי כלל הנסיגה הבא:}$$

מצא את ערכו של t שבעבורו האיברים a_7, a_8, a_9 הם איברים עוקבים בסדרה חשבונית.

- (4) סדרה שהאיבר הכללי בה הוא a_n מוגדרת על פי כלל הנסיגה הבא: $a_{n+1} = a_n + 6n - 2$.
 מגדירים סדרה חדשה שהאיבר הכללי בה הוא b_n באופן הבא: $b_n = a_{n+1} - a_n$.
 א. הוכח שהסדרה b_n היא סדרה חשבונית ומצא את הפרשה.
 ב. חשב את b_1 .

- (5) סדרה שהאיבר הכללי בה הוא a_n מוגדרת על פי כלל הנסיגה הבא: $a_{n+1} = 3a_n + 4$.
 מגדירים סדרה חדשה שהאיבר הכללי בה הוא b_n באופן הבא: $b_n = a_n + 2$.
 א. הוכח שהסדרה b_n היא סדרה הנדסית ומצא את מנתה.
 ב. נתון: $b_5 = 162$. חשב את a_1 .

- 6) סדרה מוגדרת ע"י הכלל: $a_1 = 3, a_{n+1} = 3a_n + 10n - 5$.
 מגדירים סדרה חדשה המקיימת לכל n טבעי: $b_n = a_n + 5n$.
- הוכח כי הסדרה b_n היא סדרה הנדסית.
 - חשב את האיבר b_5 .
 - חשב את הסכום: $b_2 + b_4 + b_6 + \dots + b_{12}$.
- 7) סדרה מוגדרת לכל n טבעי ע"י הנוסחה: $a_1 = k, a_{n+1} = 8n - a_n + 3$.
- הבע באמצעות k את ארבעת האיברים הראשונים בסדרה.
 - הוכח כי סדרת האיברים העומדים במקומות האי-זוגיים וסדרת האיברים העומדים במקומות הזוגיים הן חשבוניות ומצא את הפרשן.
 - חשב את סכום 20 האיברים הראשונים בסדרה.
- 8) סדרה מוגדרת ע"י כלל הנסיגה הבא: $a_1 = 2, a_{n+1} = \frac{3a_n}{2a_n + 3}$.
- מגדירים סדרה חדשה לפי: $b_n = \frac{4 - 7a_n}{a_n}$.
- הוכח כי הסדרה b_n היא חשבונית ומצא את הפרשה.
 - חשב את הסכום הבא: $b_2 + b_4 + b_6 + \dots + b_{22}$.
- 9) סדרה מקיימת את כלל הנסיגה: $a_1 = 1, a_{n+1} = 3n - a_n - 7$.
- חשב את 5 האיברים הראשונים וקבע האם הסדרה היא חשבונית.
 - הוכח כי לכל n טבעי מתקיים: $a_{n+2} = a_n + 3$.
 - כתוב נוסחה לסכום n האיברים הראשונים העומדים במקומות האי-זוגיים בסדרה.
 - חשב את הסכום הבא: $a_1 + a_3 + a_5 + \dots + a_{17}$.

10 סדרה מוגדרת לפי כלל הנסיגה הבא : $a_{n+1} = a_n + 2 \cdot 3^n + 2$.

א. ענה על הסעיפים הבאים :

i. הבע את a_{n+2} באמצעות a_n .

ii. מצא את מיקומו הסידורי של איבר הגדול ב-652 מהאיבר העומד שני מקומות לפניו.

ב. הנוסחה לסכום n האיברים הראשונים של אחת מהסדרות המיוצגות

ע"י כלל הנסיגה הנ"ל היא : $S_n = 1.5 \cdot 3^n + n^2 + n - 1.5$.

חשב את הסכום הבא : $a_6 + a_7 + a_8 + \dots + a_{11}$.

ג. מהו האיבר הראשון של הסדרה המיוצגת ע"י כלל הנסיגה ונוסחת הסכום הנ"ל?

11 סדרה מוגדרת ע"י כלל הנסיגה : $a_1 = 6, a_{n+1} = \frac{2a_n}{a_n + 5}$.

מגדירים סדרה חדשה b_n המקיימת לכל n טבעי : $b_n = \frac{a_n + 3}{a_n}$.

א. הוכח כי הסדרה b_n היא הנדסית ומצא את מנתה.

ב. כתוב נוסחה ל- b_n באמצעות n בלבד.

ג. חשב את הסכום הבא : $b_1 - b_2 + b_3 - b_4 + \dots - b_{10}$.

תשובות סופיות:

$$a_{30} = k - 49, a_{32} = k + 51 \quad \text{ג.} \quad a_{12} = 5, a_{14} = 33 \quad \text{ב.} \quad a_3 = -22 \quad \text{א.} \quad (1)$$

$$a_{62}, a_{63} \quad \text{ד.}$$

$$a_{k+2} = 74 + 4k \quad (2)$$

$$t = -33 \quad (3)$$

$$b_1 = 4 \quad \text{ב.} \quad d = 6 \quad \text{א.} \quad (4)$$

$$a_1 = 0 \quad \text{ב.} \quad q = 3 \quad \text{א.} \quad (5)$$

$$S = 1594320 \quad \text{ג.} \quad b_5 = 648 \quad \text{ב.} \quad b_{n+1} = 3b_n \quad \text{א.} \quad (6)$$

$$8 \quad \text{ב.} \quad a_4 = 19 - k, a_3 = k + 8, a_2 = 11 - k, a_1 = k \quad \text{א.} \quad (7)$$

$$830 \quad \text{ג.}$$

$$S_{11(p)} = 267 \frac{2}{3} \quad \text{ב.} \quad (8)$$

$$S_{n(o)} = 1.5n^2 - 0.5n \quad \text{ג.} \quad a_1 = 1, a_2 = -5, a_3 = 4, a_4 = -2, a_5 = 7 \quad \text{א.} \quad (9)$$

$$S_{9(o)} = 117 \quad \text{ד.}$$

$$a_4 \quad \text{ii.}$$

$$a_{n+2} = a_n + 8 \cdot 3^n + 4 \quad \text{i.} \quad \text{א.} \quad (10)$$

$$a_1 = 5 \quad \text{ג.}$$

$$S_{6-11} = 265458 \quad \text{ב.}$$

$$S_{10}^* = -4086.74 \quad \text{ג.}$$

$$b_n = 1.5 \cdot 2.5^{n-1} \quad \text{ב.}$$

$$q = 2.5 \quad \text{א.} \quad (11)$$

מכינה במתמטיקה להנדסת מכונות

פרק 12 - סימן הסכימה (סיגמה)

תוכן העניינים

1. כללי 183

סימן הסכימה (סיגמה):

שאלות:

1) כתוב בפירוט את הסכומים הבאים:

א. $\sum_{n=0}^{10} 4^n$	ב. $\sum_{k=1}^4 2k$	ג. $\sum_{n=4}^{10} na_n$
ד. $\sum_{i=7}^{11} 4i^2 a_i$	ה. $\sum_{t=1}^8 tx^t$	ו. $\sum_{k=4}^{10} na_k$
ז. $\sum_{k=1}^{10} 4n$	ח. $\sum_{k=-1}^3 (k^2 + 1)$	ט. $\sum_{l=1}^3 (l^2 - x_l - 4)$

2) כתוב את הסכומים הבאים בעזרת סימן הסכימה:

א. $1+2+4+8+16+32+64+128$
ב. $2+4+6+8+10+12+14+16+18+20$
ג. $1+3+5+7+9+11+13+15+17+19$
ד. $1 \cdot 2 + 2 \cdot 3 + 3 \cdot 4 + 4 \cdot 5 + 5 \cdot 6 + 6 \cdot 7 + 7 \cdot 8$
ה. $1 \cdot 2 + 3 \cdot 4 + 5 \cdot 6 + \dots + 44 \cdot 45$
ו. $3 \cdot 2 + 6 \cdot 3 + 9 \cdot 4 + 12 \cdot 5 + 15 \cdot 6 + 18 \cdot 7 + 21 \cdot 8$
ז. $5^2 + 7^2 + \dots + 27^2$
ח. $\frac{1}{1 \cdot 2} + \frac{1}{2 \cdot 3} + \frac{1}{3 \cdot 4} + \dots + \frac{1}{10 \cdot 11}$
ט. $\frac{2}{3} + \frac{6}{9} + \frac{10}{27} + \frac{14}{81} + \frac{18}{243}$
י. $4 + \frac{8}{5} + \frac{12}{25} + \frac{16}{125} + \frac{20}{625}$

3) חשב את הסכומים הבאים:

א. $\sum_{k=1}^{10} 4k$	ב. $\sum_{k=1}^{10} (2k + 4k^2)$	ג. $\sum_{k=10}^{24} k(k-1)$
ד. $\sum_{k=10}^{24} \frac{k^3 - k}{k+1}$	ה. $\sum_{k=4}^{10} (k-2)(k+2)$	ו. $\sum_{k=1}^{10} (2k^2 + 1)(k-2)$

* תוכל להיעזר בנוסחאות הבאות: $\sum_{k=1}^n k = \frac{n(n+1)}{2}$, $\sum_{k=1}^n k^2 = \frac{n(n+1)(2n+1)}{6}$, $\sum_{k=1}^n k^3 = \left[\frac{n(n+1)}{2} \right]^2$

(4) חשב את הסכומים הבאים:

$$\text{א. } \sum_{k=1}^{20} \frac{5 \cdot 4^k + 8^k}{2^k} \quad \text{ב. } \sum_{k=1}^{11} \frac{2 \cdot 4^{k+2} + 10^k}{0.4^k} \quad \text{ג. } \sum_{k=10}^{20} 2^{2k+10}$$

$$* \text{ תוכל להיעזר בנוסחה הבאה: } \sum_{k=1}^n a^k = \frac{a(a^n - 1)}{a - 1} \quad (a \neq 1)$$

(5) חשב את הסכומים הבאים:

$$\text{א. } 1^2 + 2^2 + 3^2 + \dots + 20^2 \quad \text{ב. } 4^2 + 5^2 + 6^2 + \dots + 24^2$$

$$\text{ג. } 2^2 + 4^2 + 6^2 + \dots + 22^2 \quad \text{ד. } 1^2 + 3^2 + 5^2 + \dots + 17^2$$

(6) הוכח כי:

$$\text{א. } \sum_{k=1}^n \frac{2^{2k+4}}{k+2} = \sum_{k=0}^{n-1} \frac{2^{2k+6}}{k+3}$$

$$\text{ב. } \sum_{k=4}^{n-3} \frac{4k+17+2^{2k}}{k+1} = \sum_{k=8}^{n+1} \frac{4k+1+2^{2k-8}}{k-3}$$

(7) חשב את הסכומים הבאים ללא פיצול הסכום:

$$\text{א. } \sum_4^{11} k^2 \quad \text{ב. } \sum_{10}^{20} 4^{2k}$$

תשובות סופיות:

1 א. $4^0 + 4^1 + 4^2 + 4^3 + 4^4 + 4^5 + 4^6 + 4^7 + 4^8 + 4^9 + 4^{10}$

ב. $2 \cdot 1 + 2 \cdot 2 + 2 \cdot 3 + 2 \cdot 4$

ג. $4a_4 + 4a_5 + 4a_6 + 4a_7 + 4a_8 + 4a_9 + 4a_{10}$

ד. $4 \cdot 7^2 a_7 + 4 \cdot 8^2 a_8 + 4 \cdot 9^2 a_9 + 4 \cdot 10^2 a_{10} + 4 \cdot 11^2 a_{11} + 4 \cdot 7^2 a_7$

ה. $1x^1 + 2x^2 + 3x^3 + 4x^4 + 5x^5 + 6x^6 + 7x^7 + 8x^8$

ו. $na_5 + na_6 + na_7 + na_8 + na_9 + na_{10} + na_{11}$

ז. $4n + 4n + 4n + 4n + 4n + 4n + 4n + 4n + 4n + 4n$

ח. $((-1)^2 + 1) + (0^2 + 1) + (1^2 + 1) + (2^2 + 1) + (3^2 + 1)$

ט. $(1^2 - x_2 - 4) + (2^2 - x_4 - 4) + (3^2 - x_6 - 4)$

2 א. $\sum_{k=0}^7 2^k$ ב. $\sum_{k=1}^{10} 2k$ ג. $\sum_{k=0}^9 (2k+1)$ ד. $\sum_{k=1}^7 k(k+1)$

ה. $\sum_{k=1}^{22} (2k-1)2k$ ו. $\sum_{k=1}^7 3k(k+1)$ ז. $\sum_{n=3}^{14} (2n-1)^2$

ח. $\sum_{n=1}^{10} \frac{1}{n(n+1)}$ ט. $\sum_{k=1}^5 \frac{4k-2}{3^k}$ י. $\sum_{k=1}^4 \frac{4k}{5^{k-1}}$

3 א. 220 ב. 1650 ג. 255 ד. 9160 ה. 28 ו. 4545

4 א. $5 \cdot (2^{21} - 2) + \frac{4}{3}(4^{20} - 1)$ ב. $32 \cdot \frac{10(10^{11} - 1)}{10 - 1} + \frac{25(25^{11} - 1)}{25 - 1}$

ג. $2^{10} \left[\frac{4(4^{20} - 1)}{4 - 1} - \frac{4(4^9 - 1)}{4 - 1} \right]$

5 א. 2870 ב. 2856 ג. 2024 ד. 969

6 הוכחה.

7 א. $\frac{8(8+1)(2 \cdot 8+1)}{6} + 6 \cdot \frac{8(8+1)}{2} + 9 \cdot 8$ ב. $4^{18} \cdot \frac{16(16^{11} - 1)}{16 - 1}$

מכינה במתמטיקה להנדסת מכונות

פרק 13 - אינדוקציה מתמטית

תוכן העניינים

186	1. שאלות העוסקות בתכונות התחלקות
189	2. סדרות
191	3. עצרת
192	4. שאלות שבהן האיבר הכללי מורכב ממספר מחוברים
193	5. שאלות העוסקות באינדוקציות עם איברים משתנים
194	6. שאלות העוסקות בהוכחת באי-שוויונים באינדוקציה
196	7. שאלות כוללות ומסכמות

שאלות העוסקות בתכונות התחלקות:

סיכום כללי:

מבנה כללי של רישום הוכחה באינדוקציה:

בדיקה:

בדיקה נכונות האינדוקציה עבור $n=1$ (ולעיתים כדאי לבדוק גם עבור $n=2,3$).

הנחת האינדוקציה:

נניח כי עבור $n=k$ (טבעי כלשהו) כי טענת האינדוקציה נכונה.

הוכחת האינדוקציה:

נוכיח כי עבור $n=k+1$ טענת האינדוקציה מתקיימת.

סיכום:

לסיכום, הראנו כי הטענה נכונה עבור $n=1$ והראנו כי נכונות הטענה עבור $n=k$ גוררת את נכונותה עבור $n=k+1$, לפיכך, על פי אקסיומת האינדוקציה, הטענה נכונה לכל n טבעי.

שאלות:

- (1) הוכח באינדוקציה, או בכל דרך אחרת, כי הביטוי $8^n - 3^n$ מתחלק ב-5 ללא שארית לכל n טבעי.
- (2) הוכח באינדוקציה, או בכל דרך אחרת, כי הביטוי $11^n - 4^n$ מתחלק ב-7 ללא שארית לכל n טבעי.
- (3) הוכח באינדוקציה, או בכל דרך אחרת, כי הביטוי $8 \cdot 7^n + 4^{n+2}$ מתחלק ב-24 ללא שארית לכל n טבעי.
- (4) הוכח באינדוקציה, או בכל דרך אחרת, כי הביטוי $5 \cdot 3^{2n} - 5^{n+1}$ מתחלק ב-20 ללא שארית לכל n טבעי.
- (5) a_n הוא האיבר במקום ה- n בסדרה החשבונית: $1, 3, 5, 7, \dots$ הוכח באינדוקציה, או בכל דרך אחרת, כי הביטוי $2^{a_n} + 4$ מתחלק ב-12 ללא שארית לכל n טבעי הגדול מ-1.
- (6) הוכח באינדוקציה, או בכל דרך אחרת, כי הביטוי $n^2 + n$ מתחלק ב-2 ללא שארית לכל n טבעי.
- (7) הוכח באינדוקציה, או בכל דרך אחרת, כי הביטוי $n^3 + 5n$ מתחלק ב-6 ללא שארית לכל n טבעי.
- (8) הוכח באינדוקציה, או בכל דרך אחרת, כי הביטוי $3^n - 2n - 1$ מתחלק ב-4 ללא שארית לכל n טבעי.
- (9) הוכח באינדוקציה, או בכל דרך אחרת, כי הביטוי $9(9^n - 1) - 40n$ מתחלק ב-32 ללא שארית לכל n טבעי.
- (10) הוכח באינדוקציה, או בכל דרך אחרת, כי הביטוי $7^n + 5^n - 2^n(2^n + 1)$ מתחלק ב-6 ללא שארית לכל n טבעי.

(11) הוכח באינדוקציה, או בכל דרך אחרת, כי הביטוי $7^n + 2^{2n}$ מתחלק ב-11 ללא שארית לכל n טבעי אי זוגי.

(12) הוכח באינדוקציה, או בכל דרך אחרת, כי הביטוי $a^n - b^n$ מתחלק ב- $(a+b)$ ללא שארית לכל n טבעי זוגי.

(13) הוכח באינדוקציה, או בכל דרך אחרת, כי הביטוי $7^{n+2} + 1$ מותיר שארית 2 בחלוקתו ב-3 לכל n טבעי.

תשובות סופיות:

שאלות הוכחה.

סדרות:

סיכום כללי:

תזכורת:

- סדרה היא אוסף מספרים: a_1, a_2, \dots, a_n , כאשר n הוא מיקום האיבר בסדרה ו- a_n הוא ערך האיבר העומד במקום ה- n בסדרה.

○ סדרה כללית – סדרה שבה כל איבר מוגדר לפי מקומו בסדרה.

○ סכום n האיברים הראשונים בסדרה יסומן ב- S_n

והוא מקיים: $S_n = a_1 + \dots + a_n$.

- סדרה חשבונית – סדרת מספרים שבה ההפרש בין כל שני איברים סמוכים הוא גודל קבוע. נוסחת האיבר הכללי היא: $a_n = a_1 + d(n-1)$ כאשר d הפרש הסדרה.

○ סכום n האיברים הראשונים הוא: $S_n = \frac{n(a_1 + a_n)}{2} = \frac{n}{2}[2a_1 + d(n-1)]$.

- סדרה הנדסית – סדרת מספרים שבה המנה בין כל שני איברים סמוכים היא גודל קבוע. נוסחת האיבר הכללי היא: $a_n = a_1 q^{n-1}$ כאשר q היא מנת הסדרה.

○ סכום n האיברים הראשונים הוא: $S_n = \frac{a_1(q^n - 1)}{q - 1}$.

שאלות:

14) הוכח באינדוקציה, או בכל דרך אחרת, כי לכל n טבעי

$$1+2+3+4+\dots+n = \frac{n}{2}(n+1) \quad \text{מתקיים:}$$

15) הוכח באינדוקציה, או בכל דרך אחרת, כי לכל n טבעי

$$4+7+10+13+\dots+(3n+1) = \frac{n}{2}(3n+5) \quad \text{מתקיים:}$$

16) נתונה סדרה שבה: $a_n = n(n+2)$

הוכח באינדוקציה, או בכל דרך אחרת, כי לכל n טבעי מתקיים: $S_n = \frac{n}{6}(n+1)(2n+7)$

17) הוכח באינדוקציה, או בכל דרך אחרת, כי לכל n טבעי מתקיים:

$$\frac{1}{1 \cdot 5} + \frac{1}{5 \cdot 9} + \frac{1}{9 \cdot 13} + \dots + \frac{1}{(4n-3)(4n+1)} = \frac{n}{4n+1}$$

18) הוכח באינדוקציה, או בכל דרך אחרת, כי לכל n טבעי מתקיים:

$$\frac{6}{1 \cdot 3 \cdot 5} + \frac{6}{3 \cdot 5 \cdot 7} + \dots + \frac{6}{(2n-1)(2n+1)(2n+3)} = \frac{2n(n+2)}{(2n+1)(2n+3)}$$

19) הוכח באינדוקציה, או בכל דרך אחרת, כי לכל n טבעי מתקיים:

$$1 \cdot 1 + 2 \cdot 3 + 3 \cdot 9 + \dots + n \cdot 3^{n-1} = \frac{1}{4} [3^n (2n-1) + 1]$$

תשובות סופיות:

שאלות הוכחה.

עצרת:

סיכום כללי:

תזכורת – מושג העצרת:

עצרת מוגדרת להיות מכפלת האיברים עד לערך הנקוב: $n! = 1 \cdot 2 \cdot 3 \cdot \dots \cdot n$.
 מגדירים: $0! = 1$ ותמיד מתקיימים השוויונות: $n! = n \cdot (n-1)!$, $(n+1)! = n! \cdot (n+1)$.

שאלות:

(20) הוכח באינדוקציה, או בכל דרך אחרת, כי לכל n טבעי מתקיים:

$$\frac{1}{2!} + \frac{2}{3!} + \frac{3}{4!} + \dots + \frac{n}{(n+1)!} = 1 - \frac{1}{(n+1)!}$$

(21) הוכח באינדוקציה, או בכל דרך אחרת, כי לכל n טבעי מתקיים:

$$\frac{1 \cdot 2!}{2} + \frac{2 \cdot 3!}{4} + \frac{3 \cdot 4!}{8} + \dots + \frac{n(n+1)!}{2^n} = \frac{(n+2)!}{2^n} - 2$$

(22) הוכח באינדוקציה, או בכל דרך אחרת, כי לכל n טבעי מתקיים:

$$p! + \frac{(p+1)!}{1!} + \frac{(p+2)!}{2!} + \dots + \frac{(p+n-1)!}{(n-1)!} = \frac{(p+n)!}{(n-1)!(p+1)}$$

(23) הוכח באינדוקציה, או בכל דרך אחרת, כי לכל n טבעי מתקיים:

$$\left(\frac{1}{1} + \frac{1}{1}\right) \left(\frac{1}{2} + \frac{1}{4}\right) \left(\frac{1}{3} + \frac{1}{9}\right) \dots \left(\frac{1}{n} + \frac{1}{n^2}\right) = \frac{n+1}{n!}$$

(24) הוכח באינדוקציה, או בכל דרך אחרת, כי לכל n טבעי מתקיים:

$$\frac{5}{1 \cdot 4} - \frac{11}{4 \cdot 7} + \frac{17}{7 \cdot 10} - \dots + \frac{(-1)^{n-1} (6n-1)}{(3n-2)(3n+1)} = 1 + \frac{(-1)^{n+1}}{3n+1}$$

תשובות סופיות:

שאלות הוכחה.

שאלות שבהן האיבר הכללי מורכב ממספר מחוברים:

שאלות:

(25) הוכח באינדוקציה, או בכל דרך אחרת, כי לכל n טבעי מתקיים:

$$1+2+3+4+\dots+2n=n(2n+1)$$

(26) הוכח באינדוקציה, או בכל דרך אחרת, כי לכל n טבעי מתקיים:

$$1^2+2^2+3^2+4^2+\dots+(2n)^2=\frac{n}{3}(2n+1)(4n+1)$$

(27) הוכח באינדוקציה, או בכל דרך אחרת, כי לכל n טבעי מתקיים:

$$1\cdot 2^0+2\cdot 2^1+3\cdot 2^2+4\cdot 2^3+\dots+3n\cdot 2^{3n-1}=(3n-1)2^{3n}+1$$

תשובות סופיות:

שאלות הוכחה.

שאלות העוסקות באינדוקציות עם איברים משתנים:

שאלות:

(28) הוכח באינדוקציה, או בכל דרך אחרת, כי לכל n טבעי מתקיים:

$$n + (n+1) + (n+2) + (n+3) + \dots + (3n) = 2n(2n+1)$$

(29) הוכח באינדוקציה, או בכל דרך אחרת, כי לכל n טבעי מתקיים:

$$(n+1)^2 + (n+2)^2 + (n+3)^2 + \dots + (2n)^2 = \frac{n}{6}(2n+1)(7n+1)$$

(30) הוכח באינדוקציה, או בכל דרך אחרת, כי לכל n טבעי מתקיים:

$$\left(1 - \frac{1}{n+1}\right) \left(1 - \frac{1}{n+2}\right) \left(1 - \frac{1}{n+3}\right) \dots \left(1 - \frac{1}{2n}\right) = \frac{1}{2}$$

(31) הוכח באינדוקציה, או בכל דרך אחרת, כי לכל n טבעי מתקיים:

$$(n+1)(n+2) \cdot \dots \cdot (2n) = 2^n \cdot 1 \cdot 3 \cdot 5 \cdot \dots \cdot (2n-1)$$

(32) הוכח באינדוקציה, או בכל דרך אחרת, כי לכל n טבעי מתקיים:

$$1 - \frac{1}{2} + \frac{1}{3} - \frac{1}{4} + \dots - \frac{1}{2n} = \frac{1}{n+1} + \frac{1}{n+2} + \dots + \frac{1}{2n}$$

תשובות סופיות:

שאלות הוכחה.

שאלות העוסקות בהוכחת באי-שוויונים באינדוקציה:

שאלות:

(33) הוכח באינדוקציה, או בכל דרך אחרת, כי לכל n טבעי הגדול מ-1 מתקיים:

$$\frac{1}{3^2} + \frac{1}{4^2} + \dots + \frac{1}{(n+1)^2} < \frac{n}{n+1}$$

(34) הוכח באינדוקציה, או בכל דרך אחרת, כי לכל n טבעי מתקיים:

$$\frac{1}{1!} + \frac{1}{2!} + \frac{1}{3!} + \dots + \frac{1}{n!} \leq 2 - \frac{1}{n}$$

(35) הוכח באינדוקציה, או בכל דרך אחרת, כי לכל n טבעי הגדול מ-2 מתקיים:

$$\frac{1}{n+1} + \frac{1}{n+2} + \frac{1}{n+3} + \dots + \frac{1}{2n} > \frac{3}{5}$$

(36) נתונה סדרה שבה: $a_n = n^n$. נגדיר: $T_n = a_1 \cdot a_2 \cdot a_3 \cdot \dots \cdot a_n$.

הוכח באינדוקציה, או בכל דרך אחרת, כי לכל n טבעי מתקיים: $T_n \leq n^{\frac{n}{2}(n+1)}$.

(37) נתון אי-השוויון: $2^n > n^2$. מצא את ה- n המינימלי שממנו מתקיים אי-השוויון לכל המספרים הטבעיים הגדולים ממנו והוכח באינדוקציה כי אי-השוויון מתקיים לכל n טבעי החל מה- n שמצאת.

(38) נתון אי-השוויון: $4^n > 5n^2 + 1$. מצא את ה- n המינימלי שממנו מתקיים אי-השוויון לכל המספרים הטבעיים הגדולים ממנו והוכח באינדוקציה כי אי-השוויון מתקיים לכל n טבעי החל מה- n שמצאת.

(39) נתון אי-השוויון: $n^3 - n < 5^{n-1}$. מצא את ה- n המינימלי שממנו מתקיים אי-השוויון לכל המספרים הטבעיים הגדולים ממנו והוכח באינדוקציה כי אי-השוויון מתקיים לכל n טבעי החל מה- n שמצאת.

(40) נתון אי-השוויון: $3^n + 4^n + 5^n < 6^n$. מצא את ה- n המינימלי שממנו מתקיים אי-השוויון לכל המספרים הטבעיים הגדולים ממנו והוכח באינדוקציה כי אי-השוויון מתקיים לכל n טבעי החל מה- n שמצאת.

41 נתון אי-השוויון : $n^n \geq n!$. הוכח באינדוקציה, או בכל דרך אחרת, כי אי-השוויון מתקיים לכל n טבעי.

42 נתון אי-השוויון : $a^n + b^n < (a+b)^n$, $(a, b > 0)$. הוכח באינדוקציה, או בכל דרך אחרת, כי אי-השוויון מתקיים לכל n טבעי הגדול מ-1.

תשובות סופיות:

שאלות הוכחה.

שאלות כוללות ומסכמות:

שאלות:

$$(43) \text{ נתון השוויון: } 4+7+10+13+\dots = \frac{n}{2}(3n+5)$$

- א. מצא את האיבר במקום ה- n .
 ב. הוכח באינדוקציה, או בכל דרך אחרת, כי השוויון מתקיים לכל n טבעי.
 ג. חשב את הסכום: $37+40+43+\dots+85$.

$$(44) \text{ נתון השוויון: } \frac{2}{3} + \frac{6}{9} + \frac{10}{27} + \dots = 2 - \frac{2n+2}{3^n}$$

- (45) נתון השוויון: $\frac{1}{1 \cdot 5} + \frac{1}{5 \cdot 9} + \frac{1}{9 \cdot 13} + \dots = \frac{n}{4n+1}$
 א. מצא את האיבר במקום ה- n .
 ב. הוכח באינדוקציה, או בכל דרך אחרת, כי השוויון מתקיים לכל n טבעי.

$$\text{ג. חשב את הסכום: } \frac{1}{25 \cdot 29} + \frac{1}{29 \cdot 33} + \frac{1}{33 \cdot 37} + \dots + \frac{1}{89 \cdot 93}$$

$$(46) \text{ נתון השוויון: } (n+1)^2 + (n+2)^2 + (n+3)^2 + \dots + (2n)^2 = \frac{n}{6}(2n+1)(7n+1)$$

- א. הוכח באינדוקציה, או בכל דרך אחרת, כי השוויון מתקיים לכל n טבעי.
 ב. חשב באמצעות סעיף א' את הסכום: $26^2 + 27^2 + 28^2 + \dots + 48^2$.

$$(47) \text{ נתון השוויון: } 1^2 + 2^2 + 3^2 + 4^2 + \dots + (2n)^2 = \frac{n}{3}(2n+1)(4n+1)$$

- א. הוכח באינדוקציה, או בכל דרך אחרת, כי השוויון מתקיים לכל n טבעי.
 ב. הבע באמצעות n את הסכום: $4^2 + 6^2 + 8^2 + \dots + (4n)^2$.

(48) נתונים השוויונים הבאים:

$$\text{א. } 3n + (3n+1) + (3n+2) + \dots + 4n = \frac{7}{3}(n^2 + 3n - 1)$$

$$\text{ב. } 3n + (3n+1) + (3n+2) + \dots + 4n = n^2 + 11n - 5$$

$$\text{ג. } 3n + (3n+1) + (3n+2) + \dots + 4n = \frac{7n}{2}(n+1)$$

קבע איזה מהשוויונים נכון לכל n טבעי, והוכח אותו באינדוקציה.

$$(49) \text{ נתון השוויון: } n + (n+1) + (n+2) + (n+3) + \dots + (3n) = an(2n+b)$$

- א. נתון כי השוויון נכון עבור $n=1$ ו- $n=2$. מצא את ערכי a ו- b .
 ב. הוכח באינדוקציה, או בכל דרך אחרת, כי השוויון מתקיים לכל n טבעי.

$$(50) \text{ נתון אי-השוויון: } \frac{1}{n+1} + \frac{1}{n+2} + \dots + \frac{1}{2n} > \frac{3}{5}$$

- א. הוכח באינדוקציה, או בכל דרך אחרת, כי אי-השוויון מתקיים לכל n טבעי הגדול מ-2.
 ב. הוכח באמצעות סעיף א' כי מתקיים: $\frac{1}{11} + \frac{1}{12} + \frac{1}{13} + \dots + \frac{1}{18} > \frac{1}{2}$

$$(51) \text{ נתון אי-השוויון: } n^2 < 2^n$$

- א. הוכח באינדוקציה, או בכל דרך אחרת, כי אי-השוויון מתקיים לכל n טבעי הגדול מ-4.
 ב. הוכח באמצעות סעיף א' כי מתקיים: $5^2 \cdot 6^2 \cdot 7^2 \cdot 8^2 \cdot \dots \cdot 20^2 < 2^{200}$

$$(52) \text{ הוכח באינדוקציה, או בכל דרך אחרת, כי הסכום: } 9 + 27 + 81 + \dots + 3^{3n+1}$$

מתחלק ב-117 ללא שארית לכל n טבעי.

(53) ענה על הסעיפים הבאים:

- א. הוכח באינדוקציה, או בכל דרך אחרת, כי הביטוי $n^3 + 5n$ מתחלק ב-6 ללא שארית לכל n טבעי.
 ב. נתון כי $a+b$ מתחלק ב-6 ללא שארית.
 הוכח כי $a^3 + b^3$ מתחלק ב-6 ללא שארית.

(54) ענה על הסעיפים הבאים:

- א. הוכח את הטענה: אם ל- n טבעי מסוים $3^n + 5^n$ מתחלק ב-16 ללא שארית אז גם $3^{n+2} + 5^{n+2}$ מתחלק ב-16 ללא שארית.
 ב. האם מהטענה בסעיף א' נובע כי $3^n + 5^n$ מתחלק ב-16 ללא שארית עבור כל n טבעי אי-זוגי?
 ג. הוכח באינדוקציה, או בכל דרך אחרת, כי הביטוי $3^n + 5^n$ מתחלק ב-8 ללא שארית לכל n טבעי אי-זוגי.

תשובות סופיות:

שאלות הוכחה.

מכינה במתמטיקה להנדסת מכונות

פרק 14 - הבינום של ניוטון

תוכן העניינים

1. כללי 198

הבינום של ניוטון:

סיכום כללי:

מושג העצרת:

מסמנים : $n! = 1 \cdot 2 \cdot 3 \cdot \dots \cdot n$ כאשר n מספר טבעי.
מגדירים : $0! = 1$.

המקדם הבינומי:

הביטוי $\binom{n}{k}$ נקרא המקדם הבינומי ומוגדר ע"י: $\binom{n}{k} = \frac{n!}{k!(n-k)!}$ לכל n, k טבעיים
כאשר $0 \leq k \leq n$.

הבינום של ניוטון:

נוסחת הבינום של ניוטון ניתנת לכתיבה באופן הבא: $(a+b)^n = \sum_{k=0}^n \binom{n}{k} a^{n-k} b^k$
לכל n טבעי.

ניתן לחשב את האיבר העומד במקום ה- k ע"י: $T_k = \binom{n}{k-1} a^{n+1-k} b^{k-1}$.

משולש פסקל:

$$\begin{array}{ccccccc}
 & & & & & & 1 & 1 \\
 & & & & & & 1 & 2 & 1 \\
 & & & & & & 1 & 3 & 3 & 1 \\
 & & & & & & 1 & 4 & 6 & 4 & 1 \\
 & & & & & & 1 & 5 & 10 & 10 & 5 & 1 \\
 & & & & & & 1 & 6 & 15 & 20 & 15 & 6 & 1 \\
 & & & & & & \ddots & & & & & & \ddots
 \end{array}$$

משולש מספרים שבו כל מספר בשורה מסוימת שווה לסכום המספרים שבשורה שמעליו באופן המתואר:

שאלות:

(1) חשב, ללא מחשבון:

א. $\frac{4! \cdot 7!}{0! \cdot 10!}$

ב. $\frac{14! \cdot 20!}{10! \cdot 17!}$

(2) הוכח את הזהויות הבאות:

א. $(n-2)!(n^2-n) = n!$

ב. $(n-1)!n^2 + n! = (n+1)!$

ג. $\frac{1}{(n-1)!} = \frac{(n+2)^2}{(n+2)!} + \frac{n^2-2}{(n+1)!}$

(3) חשב:

ד. $\binom{14}{11}$

ג. $\binom{10}{0}$

ב. $\binom{4}{1}$

א. $\binom{5}{3}$

(4) הוכח את הזהויות הבאות:

א. $\binom{n}{n} = \binom{n}{0} = 1$

ב. $\frac{k}{n} \binom{n}{k} = \binom{n-1}{k-1}$

ג. $\frac{n+1}{k+1} \binom{n}{k} = \binom{n+1}{k+1}$

(5) הוכח באינדוקציה שלכל $n \geq 2$ טבעי מתקיים: $\binom{1}{0} + \binom{2}{1} + \binom{3}{2} + \dots + \binom{n-1}{n-2} = \binom{n}{2}$

(6) רשום את פיתוח הבינום בכל אחד מהסעיפים הבאים:

א. $(a+b)^4$

ב. $(x+2)^5$

ג. $(x-4)^3$

7) ענה על הסעיפים הבאים :

א. הוכח $\binom{n}{k+1} + \binom{n}{k} = \binom{n+1}{k+1}$ לכל $k, n \in \mathbb{N}, 0 \leq k \leq n$.

ב. נסח והוכח (באינדוקציה) את נוסחת הבינום.

8) הוכח שלכל $n \geq 1$ טבעי מתקיים :

א. $\binom{n}{0} + \binom{n}{1} + \binom{n}{2} + \dots + \binom{n}{n} = 2^n$

ב. $\binom{n}{0} - \binom{n}{1} + \binom{n}{2} - \dots + (-1)^n \binom{n}{n} = 0$

ג. $\binom{n}{0} + 3\binom{n}{1} + 9\binom{n}{2} - \dots + 3^n \binom{n}{n} = 4^n$

9) מצא את האיבר הרביעי בפיתוח הבינום $\left(\frac{1}{2a} + 2a^2\right)^{10}$

10) בפיתוח של $(\sqrt[3]{a^2} + \sqrt{a})^{12}$, ישנו איבר שאחד מגורמיו הוא a^7 . מצא את מקום האיבר ואת ערכו.

11) מצא, בפיתוח של $\left(\frac{1}{x^2} + \sqrt{x}\right)^{10}$, איבר שאינו מכיל את x , וחשב את ערכו.

12) ענה על הסעיפים הבאים :

א. מצא, בפיתוח של $\left(\frac{\sqrt[3]{x}}{a} + \frac{b}{\sqrt[4]{x}}\right)^{18}$, את המקדם של $\frac{1}{x}$.

ב. חשב את סכום כל המקדמים בפיתוח, אם $a = b = 1$.

13) המקדם של האיבר השלישי בפיתוח הבינום $(a+b)^n$, הוא 15. מצא את n .

תשובות סופיות:

- (1) א. $\frac{1}{30}$ ב. $\frac{1001}{285}$
- (2) הוכחה.
- (3) א. 10 ב. 4 ג. 1 ד. 364.
- (4) הוכחה.
- (5) הוכחה.
- (6) א. $(a+b)^4 = a^4 + 4a^3b + 6a^2b^2 + 4ab^3 + b^4$
- ב. $(x+2)^5 = x^5 + 10x^4 + 40x^3 + 80x^2 + 80x + 32$
- ג. $(x-4)^3 = x^3 - 12x^2 + 48x - 64$
- (7) הוכחה.
- (8) הוכחה.
- (9) $T_4 = \frac{15}{2a}$
- (10) $T_7 = 924a^7$
- (11) $T_9 = 45$
- (12) א. $\frac{18564 \cdot b^{12}}{a^6}$ ב. 2^{18}
- (13) $n = 6$

מכינה במתמטיקה להנדסת מכונות

פרק 15 - קומבינטוריקה

תוכן העניינים

202	1. בעיות בסיסיות בהסתברות.
206	2. פעולות בין מאורעות (חיתוך ואיחוד) מאורעות זרים ומכילים.
215	3. כלל המכפלה.
219	4. תמורה - סידור עצמים בשורה.
222	5. תמורה עם עצמים זהים.
224	6. סידור עצמים במעגל.
227	7. דגימה סידורית ללא החזרה ועם החזרה.
229	8. דגימה ללא סדר וללא החזרה.
232	9. דגימה ללא סדר ועם החזרה.
236	10. שאלות מסכמות.

הגדרות יסודיות:

רקע:

ניסוי מקרי: תהליך לו כמה תוצאות אפשריות. התוצאה המתקבלת נודעת רק לאחר ביצוע התהליך. למשל: תוצאה בהטלת קובייה, מזג האוויר בעוד שבועיים.

מרחב מדגם: כלל התוצאות האפשריות בניסוי המקרי. לדוגמה, בהטלת קובייה: $\{1, 2, 3, 4, 5, 6\}$, או: מזג האוויר בעוד שבועיים: $\{\text{נאה, שרבי, מושלג, גשום, מעונן חלקית, אביד}\}$.

מאורע: תת קבוצה מתוך מרחב במדגם. מסומן באותיות: A, B, C . בהטלת קובייה למשל, המאורע 'לקבל לפחות 5' יסומן: $A = \{5, 6\}$. המאורע 'לקבל תוצאה זוגית' יסומן: $B = \{2, 4, 6\}$.

גודל מרחב המדגם: מספר התוצאות האפשריות במרחב המדגם. בהטלת קובייה למשל נקבל: $|\Omega| = 6$.

גודל המאורע: מספר התוצאות האפשריות במאורע עצמו. למשל, בהטלת הקובייה האירועים הקודמים יסומנו: $|A| = 2, |B| = 3$.

מאורע משלים: מאורע המכיל את כל התוצאות האפשריות במרחב המדגם פרט לתוצאות במאורע אותו הוא משלים. למשל, בהטלת הקובייה: $\bar{A} = \{1, 2, 3, 4\}$, $\bar{B} = \{1, 3, 5\}$.

מרחב מדגם אחיד (סימטרי): מרחב מדגם בו לכל התוצאות במרחב המדגם יש את אותה עדיפות, אותה סבירות למשל, קובייה הוגנת, אך לא כמו מזג האוויר בשבוע הבא.

הסתברות במרחב מדגם אחיד: במרחב מדגם אחיד הסיכוי למאורע יהיה: $P(A) = \frac{|A|}{|\Omega|}$.

דוגמה: מה הסיכוי בהטלת קובייה לקבל לפחות 5? $P(A) = \frac{|A|}{|\Omega|} = \frac{2}{6}$

דוגמה: מה הסיכוי בהטלת קובייה לקבל תוצאה זוגית? $P(B) = \frac{|B|}{|\Omega|} = \frac{3}{6}$

הסתברות במרחב לא אחיד: תחושב לפי השכיחות היחסית: $\frac{f}{n}$.

דוגמה:

להלן התפלגות הציונים בכיתה מסוימת:

מספר התלמידים – השכיחות – f	הציון – x
2	5
4	6
8	7
5	8
4	9
2	10

מה ההסתברות שתלמיד אקראי שניבחר בכיתה קיבל את הציון 8? $\frac{f}{n} = \frac{5}{25} = 0.2$

מה ההסתברות שתלמיד אקראי שניבחר בכיתה יכשל? $\frac{f}{n} = \frac{2}{25} = 0.08$

הסתברות למאורע משלים: הסתברות לקבוצת המשלים של המאורע ביחס למרחב המדגם: $P(\bar{A}) = 1 - P(A)$. למשל, בדוגמה הקודמת הסיכוי לעבור את הבחינה יכול

להיות מחושב לפי הסיכוי להיכשל: $P(\bar{A}) = 1 - \frac{2}{25} = \frac{23}{25}$.

שאלות:

- (1) מהאותיות E, F ו- G יש ליצור מילה בת 2 אותיות, לא בהכרח בת משמעות.
 א. הרכיבו את כל המילים האפשריות.
 ב. רשמו את המקרים למאורע:
 i. במילה נמצאת האות E .
 ii. במילה האותיות שונות.
 ג. רשמו את המקרים למאורע \bar{A} .

- (2) מטילים זוג קוביות.
 א. רשמו את מרחב המדגם של הניסוי. האם מרחב המדגם אחיד?
 ב. רשמו את כל האפשרויות לאירועים הבאים:
 i. סכום התוצאות 7.
 ii. מכפלת התוצאות 12.
 ג. חשבו את הסיכויים לאירועים שהוגדרו בסעיף ב'.

- (3) נבחר באקראי ספרה מבין הספרות 0-9.
 א. מה ההסתברות שהספרה שנבחרה גדולה מ-5?
 ב. מה ההסתברות שהספרה שנבחרה היא לכל היותר 3?
 ג. מה ההסתברות שהספרה שנבחרה היא אי זוגית?

- (4) להלן התפלגות מספר מקלטי הטלוויזיה עבור כל משפחה בישוב מסוים:

10	22	18	28	22	מספר משפחות
4	3	2	1	0	מספר מקלטים

- נבחרה משפחה באקראי מהישוב.
 א. מה ההסתברות שאין מקלטים למשפחה?
 ב. מה ההסתברות שיש מקלטים למשפחה?
 ג. מה ההסתברות שיש לפחות 3 מקלטים למשפחה?

- (5) להלן התפלגות מספר המכוניות למשפחה ביישוב "עדן":

10	30	100	40	20	מספר משפחות
4	3	2	1	0	מספר מכוניות

- נבחרה משפחה אקראית מן הישוב.
 א. מה ההסתברות שאין לה מכוניות?
 ב. מה ההסתברות שבבעלות המשפחה לפחות 3 מכוניות?
 ג. מה הסיכוי שבבעלותה פחות מ-3 מכוניות?

- 6) נטיל מטבע רגיל 3 פעמים. בצד אחד של המטבע מוטבע עץ ובצד השני פלי.
- א. רשמו את מרחב המדגם של הניסוי. האם מרחב המדגם הוא אחיד?
- ב. רשמו את כל האפשרויות לאירועים הבאים:
- i. התקבל פעם אחת עץ.
- ii. התקבל לפחות פלי אחד.
- ג. מהו המאורע המשלים ל-D?
- ד. חשבו את הסיכויים לאירועים שהוגדרו בסעיפים ב-ג.

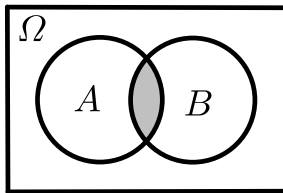
תשובות סופיות:

- 1) א. $\Omega = \{EE, EF, EG, FE, FF, FG, GE, GF, GG\}$
- ב. $A = \{EE, EF, EG, FE, GE\}$, $B = \{EF, EG, FE, FG, GE, GF\}$
- ג. $\bar{A} = \{FF, FG, GF, GG\}$
- 2) א. $\Omega = \left\{ \begin{array}{cccccc} (1,1) & (2,1) & (3,1) & (5,1) & (4,1) & (6,1) \\ (1,2) & (2,2) & (3,2) & (4,2) & (5,2) & (6,2) \\ (1,3) & (2,3) & (3,3) & (4,3) & (5,3) & (6,3) \\ (1,4) & (2,4) & (3,4) & (4,4) & (5,4) & (6,4) \\ (1,5) & (2,5) & (3,5) & (4,5) & (5,5) & (6,5) \\ (1,6) & (2,6) & (3,6) & (4,6) & (5,6) & (6,6) \end{array} \right\}$
- ב. $A = \{(1,6), (2,5), (3,4), (4,3), (5,2), (6,1)\}$, $C = \{(2,6), (3,4), (4,3), (6,2)\}$
- ג. הסיכוי ל-A: $\frac{1}{6}$
- הסיכוי ל-B: $\frac{1}{9}$
- 3) א. 0.4 ב. 0.4 ג. 0.5
- 4) א. 0.22 ב. 0.78 ג. 0.32
- 5) א. 0.1 ב. 0.2 ג. 0.8
- 6) א. $\Omega = \{PPP, PPE, PEP, EPP, PEE, EPE, EEP, EEE\}$
- ב. $A = \{PPE, PEP, EPP\}$, $D = \{PPP, PPE, PEP, EPP, PEE, EPE, EEP\}$
- ג. $\bar{D} = \{EEE\}$
- ד. $\frac{1}{8}$

פעולות בין מאורעות (חיתוך ואיחוד) – מאורעות זרים ומכילים:

רקע:

פעולת חיתוך:



נותנת את המשותף בין המאורעות הנחתכים.
 חיתוך בין המאורע A למאורע B יסומן כך: $A \cap B$.
 מדובר בתוצאות שנמצאות ב- A וגם ב- B .

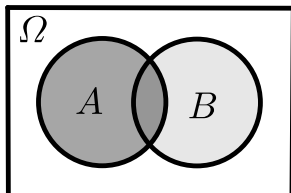
דוגמה:

בהטלת קובייה, למשל, האפשרויות לקבל לפחות 5 הן: $A = \{5, 6\}$.

האפשרויות לקבל תוצאה זוגית הן: $B = \{2, 4, 6\}$.

החיתוך שביניהם הוא: $A \cap B = \{6\}$.

פעולת איחוד:



נותנת את כל האפשרויות שנמצאות לפחות באחת מהמאורעות, ומסומנת: $A \cup B$.
 הפעולה נותנת את אשר נמצא ב- A או ב- B .
 כלומר, לפחות אחד מהמאורעות קורה.

דוגמה:

בהטלת קובייה האפשרויות לקבל לפחות 5 הן: $A = \{5, 6\}$.

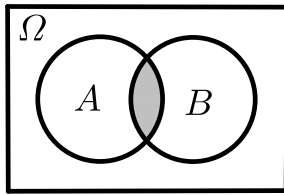
האפשרויות לקבל תוצאה זוגית: $B = \{2, 4, 6\}$.

האפשרויות לקבל לפחות 5 וגם תוצאה זוגית: $A \cup B = \{2, 4, 5, 6\}$.

דוגמה (הפתרון נמצא בהקלטה):

סטודנט ניגש בסמסטר לשני מבחנים. מבחן בסטטיסטיקה ומבחן בכלכלה. ההסתברות שלו לעבור את המבחן בסטטיסטיקה הוא 0.9, ההסתברות שלו לעבור את המבחן בכלכלה הוא 0.8 וההסתברות לעבור את המבחן בסטטיסטיקה ובכלכלה היא 0.75. מה ההסתברות שלו לעבור את המבחן בסטטיסטיקה בלבד? מה ההסתברות שלו להיכשל בשני המבחנים? מה ההסתברות לעבור לפחות מבחן אחד?

נוסחת החיבור לשני מאורעות:



ההסתברות של איחוד מאורעות תחושב ע"י הקשר הבא:

$$P(A \cup B) = P(A) + P(B) - P(A \cap B)$$

חוקי דה מורגן לשני מאורעות:

$$\overline{A \cup B} = \bar{A} \cap \bar{B}$$

$$\overline{A \cap B} = \bar{A} \cup \bar{B}$$

$$P(A \cap B) = 1 - P(\bar{A} \cup \bar{B})$$

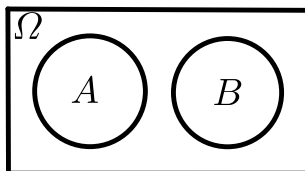
$$P(A \cup B) = 1 - P(\bar{A} \cap \bar{B})$$

שיטת ריבוע הקסם:

השיטה רלבנטית רק אם יש שני מאורעות במקביל בדומה לתרגיל הקודם:

	\bar{A}	A	
B	$P(\bar{A} \cap B)$	$P(A \cap B)$	$P(B)$
\bar{B}	$P(\bar{A} \cap \bar{B})$	$P(A \cap \bar{B})$	$P(\bar{B})$
	$P(\bar{A})$	$P(A)$	1

מאורעות זרים:



מאורעות זרים הם כאשר אין להם אף איבר משותף: $A \cap B = \{ \}$. כלומר, הם לא יכולים להתרחש בו זמנית.

ההסתברות של חיתוך המאורעות היא אפס: $P(A \cap B) = 0$.

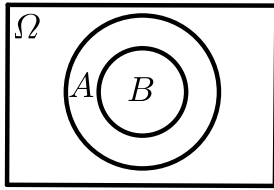
ההסתברות של איחוד המאורעות תחושב: $P(A \cup B) = P(A) + P(B)$.

דוגמה:

בהטלת קובייה, האפשרויות לקבל לפחות 5 הן: $A = \{5, 6\}$ והאפשרות לקבל 3

היא: $B = \{3\}$, ולכן החיתוך ביניהם הוא אפס, כלומר: $A \cap B = \{ \}$.

מאורעות מוכלים:



נתונים שני מאורעות A ו- B , השונים מאפס. נאמר שהמאורע B מוכל במאורע A אם כל איברי המאורע B כלולים במאורע A ונרשום: $B \subset A$.

מאורע A מכיל את מאורע B כל התוצאות שנמצאות ב- B מוכלות בתוך מאורע A .

קשר זה מסומן באופן הבא: $B \subset A$.

$$A \cap B = B \quad P(A \cap B) = P(B)$$

$$A \cup B = A \quad P(A \cup B) = P(A)$$

$$A = \{2, 4, 6\}$$

$$B = \{2, 4\} \quad \text{למשל:}$$

שאלות:

- (1) מהאותיות E, F ו- G יוצרים מילה בת 2 אותיות – לא בהכרח בת משמעות. נגדיר את המאורעות הבאים:
 A - במילה נמצאת האות E .
 B - במילה אותיות שונות.
 א. רשמו את כל האפשרויות לחיתוך A עם B .
 ב. רשמו את כל האפשרויות לאיחוד של A עם B .
- (2) תלמיד ניגש בסמסטר לשני מבחנים מבחן בכלכלה ומבחן בסטטיסטיקה. נגדיר את המאורעות הבאים:
 A - לעבור את המבחן בסטטיסטיקה.
 B - לעבור את המבחן בכלכלה.
 היעזרו בפעולות חיתוך, איחוד ומשלים בלבד כדי להגדיר את המאורעות הבאים וסמנו בדיאגרמת וון את השטח המתאים:
 א. התלמיד עבר רק את המבחן בכלכלה.
 ב. התלמיד עבר רק את המבחן בסטטיסטיקה.
 ג. התלמיד עבר את שני המבחנים.
 ד. התלמיד עבר לפחות מבחן אחד.
 ה. התלמיד נכשל בשני המבחנים.
 ו. התלמיד נכשל בכלכלה.
- (3) נתבקשתם לבחור ספרה באקראי. נגדיר את A להיות הספרה שנבחרה היא זוגית. נגדיר את B להיות הספרה שנבחרה קטנה מ-5.
 א. רשמו את כל התוצאות למאורעות הבאים:
 $A \cup B, A \cap B, \bar{B}, B, A$.
 ב. חשבו את ההסתברויות לכל המאורעות מהסעיף הקודם.
- (4) נסמן ב- Ω את מרחב המדגם וב- ϕ קבוצה ריקה.
 נתון כי A הינו מאורע בתוך מרחב המדגם.
 להלן מוגדרים מאורעות שפתרונם הוא Ω או ϕ או A .
 קבעו עבור כל מאורע מה הפתרון שלו:
 $A \cup \bar{A}, \bar{\phi}, A \cap \bar{A}, A \cup \Omega, A \cap \Omega, A \cup \phi, A \cap \phi, \bar{A}$

(5) הוגדרו המאורעות הבאים :

A - אדם שגובהו מעל 1.7 מטר

B - אדם שגובהו מתחת ל-1.8 מטר.

קבעו את גובהם של האנשים הבאים :

א. $A \cap B$

ב. $A \cup B$

ג. $\bar{A} \cap B$

ד. $\bar{A} \cup \bar{B}$

ה. $\bar{\bar{A}}$

(6) נגדיר את המאורעות הבאים :

A - אדם דובר עברית.

B - אדם דובר ערבית.

C - אדם דובר אנגלית.

השתמשו בפעולות איחוד, חיתוך והשלמה לתיאור המאורעות הבאים :

א. אדם דובר את כל שלוש השפות.

ב. אדם דובר רק עברית.

ג. אדם דובר לפחות שפה אחת מתוך השפות הללו.

ד. אדם אינו דובר אנגלית.

ה. קבוצת התלמידים שדוברים שתי שפות בדיוק (מהשפות הנ"ל).

(7) שתי מפלגות רצות לכנסת הבאה. מפלגת "גדר" תעבור את אחוז החסימה בהסתברות של 0.08 ומפלגת "עמיד" תעבור את אחוז החסימה בהסתברות של 0.20. בהסתברות של 76% שתי המפלגות לא תעבורנה את אחוז החסימה.

א. מה ההסתברות שלפחות אחת מהמפלגות תעבור את אחוז החסימה?

ב. מה ההסתברות ששתי המפלגות תעבורנה את אחוז החסימה?

ג. מה ההסתברות שרק מפלגות "עמיד" תעבור את אחוז החסימה?

(8) במקום עבודה מסוים 40% מהעובדים הם גברים. כמו כן, 20% מהעובדים הם אקדמאים. 10% מהעובדים הינן נשים אקדמאיות.

א. איזה אחוז מהעובדים הם גברים אקדמאיים?

ב. איזה אחוז מהעובדים הם גברים או אקדמאיים?

ג. איזה אחוז מהעובדים הם נשים לא אקדמאיות?

9) הסיכוי של מניה A לעלות הנו 0.5 ביום מסוים והסיכוי של מניה B לעלות ביום מסוים הנו 0.4. בסיכוי של 0.7 לפחות אחת מהמניות תעלה ביום מסוים. חשבו את ההסתברויות הבאות לגבי שתי המניות הללו ביום מסוים:

א. ששתי המניות תעלנה.

ב. שאף אחת מהמניות לא תעלנה.

ג. שמניה A בלבד תעלה.

10) מטילים זוג קוביות, אדומה ושחורה. נגדיר את המאורעות הבאים:

A - בקובייה האדומה התקבלה התוצאה 4 ובשחורה 2.

B - סכום התוצאות משתי הקוביות הוא 6.

C - מכפלת התוצאות בשתי הקוביות היא 10.

א. האם A ו-B מאורעות זרים?

ב. האם המאורע B מכיל את המאורע A?

ג. האם A ו-C מאורעות זרים?

ד. האם A ו-C מאורעות משלימים?

11) עבור המאורעות A ו-B ידועות ההסתברויות הבאות: $P(A) = 0.6$,

$$P(\bar{A} \cap \bar{B}) = 0.1, P(B) = 0.3$$

א. האם A ו-B מאורעות זרים?

ב. חשבו את $P(\bar{A} \cap B)$.

12) מטבע הוטל פעמיים. נגדיר את המאורעות הבאים:

A - קיבלנו עץ בהטלה הראשונה.

B - קיבלנו לפחות עץ אחד בשתי ההטלות.

איזו טענה נכונה?

א. A ו-B מאורעות זרים.

ב. A ו-B מאורעות משלימים.

ג. B מכיל את A.

ד. A מכיל את B.

13) בהגרלה חולקו 100 כרטיסים. על 3 מהם רשום חופשה ועל 2 מהם רשום מחשב

שאר הכרטיסים ריקים. אדם קיבל כרטיס אקראי.

א. מה הסיכוי לזכות בחופשה או במחשב? האם המאורעות הללו זרים?

ב. מה ההסתברות לא לזכות בפרס?

14 נתון כי: $P(A) = 0.3$, $P(B) = 0.25$, $P(A \cup B) = 0.49$

- א. חשבו את הסיכוי ל- $P(A \cap B)$.
 ב. האם A ו- B מאורעות זרים?
 ג. מה ההסתברות שרק A יקרה או שרק B יקרה?

15 A ו- B מאורעות זרים. נתון ש: $2 \cdot P(B \cap \bar{A}) = P(A \cap \bar{B}) = P(\bar{A} \cap \bar{B})$.

מה הסיכוי למאורע A ומה ההסתברות למאורע B ?

16 קבעו אילו מהטענות הבאות נכונות:

- א. $A \cap B = B \cap A$.
 ב. $\overline{A \cup B} = A \cap B$.
 ג. $A \cap B \cap C = A \cap B \cap (C \cup B)$.
 ד. $\overline{A \cap B \cap C} = \bar{A} \cup \bar{B} \cup \bar{C}$.

17 נתון ש- A ו- B מאורעות במרחב מדגם. נתון ש- $P(A) = 0.3$, $P(B) = 0.2$.

- א. האם יתכן ש- $P(A \cup B) = 0.4$?
 ב. האם יתכן ש- $P(A \cup B) = 0.6$?
 ג. אם A ו- B זרים מה הסיכוי $P(A \cup B)$?
 ד. אם A מכיל את B מה הסיכוי $P(A \cup B)$?

18 מתוך אזרחי המדינה הבוגרים ל-30% חשבון בבנק הפועלים. ל-28% חשבון בבנק לאומי ול-15% חשבון בבנק מזרחי. כמו כן נתון כי 6% מחזיקים חשבון בבנק לאומי ובבנק הפועלים. ל-5% חשבון בבנק פועלים ומזרחי. ול-4% חשבון בבנק לאומי ומזרחי. כמו כן ל-1% מהאוכלוסייה הבוגרת חשבון בנק בשלושת הבנקים יחד.

- א. מה אחוז האזרחים להם חשבון בבנק לאומי בלבד?
 ב. מה ההסתברות שאזרח כלשהו יחזיק חשבון בבנק פועלים ולאומי אבל לא בבנק מזרחי?
 ג. מה ההסתברות שלאזרח יהיה חשבון בפועלים או במזרחי אבל לא בבנק לאומי?
 ד. מה אחוז האזרחים שיש להם חשבון בנק אחד בלבד?
 ה. מה אחוז האזרחים שיש להם חשבון בשני בנקים בלבד?
 ו. מה ההסתברות שלאזרח בוגר אין חשבון בנק באף אחד מהבנקים הללו?
 ז. לאיזה אחוז מהאזרחים יש חשבון בנק בלפחות אחד מהבנקים הללו?

- 19** חברה מסוימת פרסמה את הנתונים הבאים לגבי האזרחים מעל גיל 21. הנתונים שהתקבלו היו: 40% מהאנשים מחזיקים כרטיס "ויזה", 52% מחזיקים כרטיס "ישראלכרט", 20% מחזיקים כרטיס "אמריקן אקספרס", 15% מחזיקים כרטיס ויזה וגם ישראלכרט, 8% מחזיקים כרטיס ישראלכרט וגם אמריקן אקספרס ו-7% מחזיקים כרטיס ויזה וגם אמריקן אקספרס. כמו כן, 13% לא מחזיקים באף אחד משלושת הכרטיסים הנ"ל.
- א. מה אחוז מחזיקי שלושת כרטיס האשראי גם יחד?
- ב. מה אחוז מחזיקי ישראלכרט וויזה אך לא את אמריקן אקספרס?
- ג. מה אחוז מחזיקי כרטיס אחד בלבד?

20 הוכיחו: $P(\bar{A} \cap \bar{B}) = 1 - P(A) - P(B) + P(A \cap B)$.

- 21** A ו- B מאורעות במרחב המדגם. האם נכון לומר שהסיכוי שיתרחש בדיוק מאורע אחד הוא: $P(A) + P(B) - 2P(A \cap B)$?

תשובות סופיות:

- 1 א. $A \cap B = \{EG, EF, FE, GE\}$
 ב. $A \cup B = \{EG, EF, EE, FE, GE, EG, GF\}$
- 2 א. $B \cap \bar{A}$ ב. $A \cap \bar{B}$ ג. $A \cap B$ ד. $A \cup B$ ה. $\bar{A} \cap \bar{B}$ ו. \bar{B}
- 3 א. $A = 0, 2, 4, 6, 8, B = 0, 1, 2, 3, 4, \bar{B} = 5, 6, 7, 8, 9$
 $A \cup B = 0, 2, 4, 6, 8, 1, 3, A \cap B = 0, 2, 4$
- ב. $P(A \cup B) = 0.7, P(A \cap B) = 0.3, P(\bar{B}) = 0.5, P(B) = 0.5, P(A) = 0.5$
- 4 א. $\bar{\bar{A}} = A, A \cap \phi = \phi, A \cup \phi = A, A \cap \Omega = A, A \cup \Omega = \Omega$
 $A \cup \bar{A} = \Omega, \bar{\phi} = \Omega, A \cap \bar{A} = \phi$
- 5 א. $A \cap B$: גובה בין 1.7 ל-1.8.
 ב. $A \cup B$: כל גובה אפשרי.
 ג. $\bar{A} = \bar{A} \cap B$: גובה לכלל היותר 1.7.
 ד. $\bar{A} \cup \bar{B}$: לכלל היותר 1.7 או לפחות 1.8.
 ה. $A = \bar{\bar{A}}$: גובה מעל 1.7.
- 6 א. $A \cap B \cap C$ ב. $A \cap \bar{B} \cap \bar{C}$ ג. $A \cup B \cup C$
 ד. \bar{C} ה. $(A \cap B \cap \bar{C}) \cup (B \cap C \cap \bar{A}) \cup (A \cap C \cap \bar{B})$
- 7 א. $P(A \cup B) = 0.24$ ב. $P(A \cap B) = 0.04$ ג. $P(B \cap \bar{A}) = 0.16$
- 8 א. $P(A \cap B) = 10\%$ ב. $P(A \cup B) = 50\%$ ג. $P(\bar{A} \cap \bar{B}) = 50\%$
- 9 א. $P(A \cap B) = 0.2$ ב. $P(\bar{A} \cap \bar{B}) = 0.3$ ג. $P(A \cup \bar{B}) = 0.3$
- 10 א. לא. ב. כן. ג. כן. ד. לא.
- 11 א. כן. ב. $P(\bar{A} \cap B) = 0.3$
- 12 הטענה הנכונה היא ג'.
- 13 א. 0.05. ב. 0.95.
- 14 א. $P(A \cap B) = 0.06$ ב. לא. ג. $P((A \cap \bar{B}) \cup (B \cap \bar{A})) = 0.43$
- 15 $P(B) = \frac{1}{5}, P(A) = \frac{2}{5}$
- 16 א. נכון. ב. לא נכון. ג. לא נכון. ד. נכון.
- 17 א. כן. ב. לא. ג. $P(A \cup B) = 0.5$ ד. $P(A \cup B) = 0.3$
- 18 א. 19%. ב. 0.05. ג. 0.31. ד. 46%. ה. 12%. ו. 0.41.
- 19 א. 5%. ב. 10%. ג. 67%.
- 20 שאלת הוכחה.
- 21 נכון.

קומבינטוריקה – כלל המכפלה:

רקע:

כלל המכפלה:

כלל המכפלה הוא כלל שבאמצעותו אפשר לחשב את גודל המאורע או גודל מרחב המדגם.

אם לתהליך יש k שלבים: n_1 אפשרויות לשלב הראשון, n_2 אפשרויות לשלב השני... n_k

אפשרויות לשלב k :

מספר האפשרויות לתהליך כולו יהיה: $n_1 \cdot n_2 \cdot n_3 \cdots n_k$

למשל, כמה אפשרויות יש למשחק בו מטילים קובייה וגם מטבע? (הסבר בהקלטה)

$$n_1 = 6, n_2 = 2$$

$$n_1 \cdot n_2 = 6 \cdot 2 = 12$$

למשל, כמה לוחיות רישוי בני 5 תווים ניתן ליצור כאשר התו הראשון הוא אות אנגלית והיתר ספרות? (הסבר בהקלטה)

$$n_1 = 26, n_2 = 10, n_3 = 10, n_4 = 10, n_5 = 10$$

$$n_1 \cdot n_2 \cdot n_3 \cdot n_4 \cdot n_5 = 26 \cdot 10 \cdot 10 \cdot 10 \cdot 10 = 260,000$$

שאלות:

- (1) חשבו את מספר האפשרויות לתהליכים הבאים:
- הטלת קובייה פעמים.
 - מספר תלת ספרתי.
 - בחירת בן ובת מכתה שיש בה שבעה בנים ועשר בנות.
 - חלוקת שני פרסים שונים לעשרה אנשים שונים כאשר אדם לא יכול לקבל יותר מפרס אחד.
- (2) במסעדה מציעים ארוחה עסקית.
- בארוחה עסקית יש לבחור מנה ראשונה, מנה עיקרית ושתייה. האופציות למנה ראשונה הן: סלט ירקות, סלט אנטיפסטי ומרק היום. האופציות למנה עיקרית הן: סטייק אנטריקוט, חזה עוף בגריל, לזניה בשרית ולזניה צמחונית. האופציות לשתייה הן: קפה, תה ולימונדה.
- כמה ארוחות שונות ניתן להרכיב בעזרת התפריט הזה?
 - אדם מזמין ארוחה אקראית. חשב את ההסתברויות הבאות:
 - בארוחה סלט ירקות, לזניה בשרית ולימונדה.
 - בארוחה סלט, לזניה ותה.
- (3) בוחרים באקראי מספר בין חמש ספרות. חשבו את ההסתברויות הבאות:
- המספר הוא זוגי.
 - במספר כל הספרות שונות.
 - במספר כל הספרות זהות.
 - במספר לפחות שתי ספרות שונות.
 - במספר לפחות שתי ספרות זהות.
 - המספר הוא פלינדרום (מספר הנקרא מימין ומשמאל באות הצורה).
- (4) חישה אנשים אקראיים נכנסו למעלית בבניין בן 8 קומות. חשבו את ההסתברויות הבאות:
- כולם ירו בקומה החמישית.
 - כולם ירדו באותה קומה.
 - כולם ירדו בקומה אחרת.
 - ערך ודני ירדו בקומה השישית והיתר בשאר הקומות.

- (5) במפלגה חמישה עשר חברי כנסת. יש לבחור שלושה חברי כנסת לשלושה תפקידים שונים. בכמה דרכים ניתן לחלק את התפקידים הבאים אם:
- חבר כנסת יכול למלא יותר מתפקיד אחד.
 - חבר כנסת לא יכול למלא יותר מתפקיד אחד.
- (6) מטילים קובייה 4 פעמים.
- מה ההסתברות שכל התוצאות תהינה זהות?
 - מה ההסתברות שכל התוצאות תהינה שונות?
 - מה ההסתברות שלפחות שתי תוצאות תהינה זהות?
 - מה ההסתברות שלפחות שתי תוצאות תהינה שונות?
- (7) יש ליצור מילה בת חמש אותיות, לא בהכרח עם משמעות מאותיות ה-ABC (26 אותיות).
- מה ההסתברות שבמילה שנוצרה אין האותיות A, D ו-L?
 - מה ההסתברות שבמילה שנוצרה כל האותיות זהות?
 - מה ההסתברות שבמילה שנוצרה לפחות שתי אותיות שונות זו מזו?
 - מה ההסתברות שהמילה היא פלינדרום? (מילה אשר משמאל לימין, ומימין לשמאל נקראת אותו הדבר).
- (8) יוצרים קוד עם a ספרות (מותר לחזור על אותה ספרה בקוד). חשבו את ההסתברויות הבאות: (בטאו את תשובותיכם באמצעות a).
- בקוד אין את הספרה 5.
 - בקוד מופיעה הספרה 3.
 - בקוד לא מופיעות ספרות אי זוגיות.
- (9) במשחק מזל יש למלא טופס בו n משבצות. כל משבצת מסומנת בסימן V או X. בכמה דרכים שונות ניתן למלא את טופס משחק המזל?

תשובות סופיות:

- (1) א. 36 ב. 900 ג. 70 ד. 90
- (2) א. 36 ב. i. $\frac{1}{36}$ ב. ii. $\frac{1}{9}$
- (3) א. 0.5 ב. 0.3024 ג. 0.0001 ד. 0.9999 ה. 0.6976 ו. 0.01
- (4) א. $\frac{1}{8^5}$ ב. $\frac{1}{8^4}$ ג. 0.205 ד. $\frac{1 \cdot 1 \cdot 7^3}{8^5}$
- (5) א. 3375 ב. 2730
- (6) א. $\frac{1}{216}$ ב. $\frac{5}{18}$ ג. $\frac{13}{18}$ ד. $\frac{215}{216}$
- (7) א. $\frac{23^5}{26^5}$ ב. $\frac{1}{26^4}$ ג. $1 - \frac{1}{26^4}$ ד. $\frac{1}{26^2}$
- (8) א. 0.9^a ב. $1 - 0.9^a$ ג. 0.5
- (9) 2^n

קומבינטוריקה – תמורה – סידור עצמים בשורה:

רקע:

תמורה:

מספר האפשרויות לסדר n עצמים שונים בשורה: $n! = 1 \cdot 2 \cdot 3 \cdots (n-1) \cdot n$.

הערה: $0! = 1$.

דוגמאות (הפתרונות בהקלטה):

- בכמה דרכים שונות ניתן לסדר את האותיות: a, b, c, d ?
- בכמה דרכים שונות ניתן לסדר את האותיות: a, b, c, d , כך שהאותיות: a, b יהיו ברצף?
- בכמה דרכים שונות ניתן לסדר את האותיות: a, b, c, d , כך שהאותיות: a, b יופיעו בתור הרצף ba ?

שאלות:

- (1) חשבו : בכמה אופנים
 א. אפשר לסדר 4 ספרים שונים על מדף?
 ב. אפשר לסדר חמישה חיילים בטור?
- (2) סידרו באקראי 10 דיסקים שונים על מדף שמתוכם שניים בשפה העברית.
 א. מה ההסתברות שהדיסקים בעברית יהיו צמודים זה לזה?
 ב. מה ההסתברות שהדיסקים בעברית לא יהיו צמודים זה לזה?
 ג. מה ההסתברות ששני הדיסקים בעברית יהיו כל אחד בקצה השני של המדף?
- (3) בוחנים 5 בנים ו-4 בנות בכיתה ומדרגים אותם לפי הציון שלהם בבחינה. נניח שאין תלמידים בעלי אותו ציון.
 א. מהו מספר הדירוגים האפשריים?
 ב. מהו מספר הדירוגים האפשריים אם מדרגים בנים ובנות בנפרד?
- (4) מסדרים 10 ספרים שונים על מדף.
 א. בכמה אופנים ניתן לסדר את הספרים על המדף?
 ב. שני ספרים מתוך ה-10 הם בסטיסטיקה.
 א. מה ההסתברות שאם נסדר את הספרים באקראי, הספרים בסטיסטיקה יהיו צמודים זה לזה?
 ב. מה ההסתברות שהספרים בסטיסטיקה לא יהיו צמודים זה לזה?
 ג. מה ההסתברות שהספרים בסטיסטיקה יהיו בקצות המדף (כל ספר בקצה אחר)?
- (5) אדם יצר בנגן שלו פלייליסט (רשימת השמעה) של 12 שירים שונים. 4 בשפה העברית, 5 באנגלית ו-3 בצרפתית. האדם הריץ את הפלייליסט באקראי.
 א. מה ההסתברות שכל השירים באנגלית יופיעו כשירים הראשונים כמקשה אחת?
 ב. מה ההסתברות שכל השירים באנגלית יופיעו ברצף (לא חובה ראשונים)?
 ג. מה ההסתברות ששירים באותה השפה יופיעו ברצף (כלומר כל השירים באנגלית ברצף, כל השירים בעברית ברצף וכך גם השירים בצרפתית)?

- 6) 4 בניים ו-4 בנות התיישבו באקראי בשורת כיסאות 1-8 בקולנוע.
- א. מה ההסתברות שיוסי ומיכל לא ישבו זה לצד זה?
- ב. מה ההסתברות שהבנים יתיישבו במקומות האי-זוגיים?
- ג. מה ההסתברות שכל הבנים ישבו זה לצד זה?
- ד. מה ההסתברות שהבנים ישבו זה לצד זה והבנות תשבנה זו לצד זו?

תשובות סופיות:

- (1) א. 0.24 ב. 0.120
- (2) א. 0.2 ב. 0.8 ג. 0.022
- (3) א. 0.362880 ב. 0.2880
- (4) א. 0.3628800 ב. 0.2 ג. 0.8 ד. $\frac{1}{45}$
- (5) א. $\frac{1}{792}$ ב. $\frac{1}{99}$ ג. $\frac{1}{4620}$
- (6) א. 0.75 ב. 0.014 ג. $\frac{1}{14}$ ד. $\frac{1}{35}$

קומבינטוריקה – תמורה עם עצמים זהים:

רקע:

תמורה עם חזרות:

אם יש בין העצמים שיש לסדר עצמים זהים, יש לבטל את הסידור הפנימי שלהם על ידי חלוקה בסידורים הפנימיים שלהם.

מספר האופנים לסדר n עצמים בשורה, ש- n_1 מהם זהים מסוג 1, n_2 זהים מסוג 2

$$r\text{-}n_1 \text{ זהים מסוג } r : \frac{n!}{n_1! \cdot n_2! \cdot \dots \cdot n_r!}$$

דוגמה (תשובה בהקלטה):

כמה מילים ניתן ליצור מכל האותיות הבאות: W, W, T, T, K, K

שאלות:

1) במשחק יש לצבוע שתי משבצות מתוך המשבצות הבאות:

--	--	--	--	--

בכמה דרכים שונות ניתן לבצע את הצביעה?

2) בכמה אופנים שונים אפשר לסדר בשורה את האותיות: ב, ע, ב, ע, ג?

3) בבית נורות מקום ל-6 נורות. בחרו שתי נורות אדומות, שתי נורות צהובות ושתי נורות כחולות. כמה דרכים שונות יש לסדר את הנורות?

4) נרצה ליצור מספר מכל הספרות הבאות: 1, 2, 2, 2, 6. כמה מספרים כאלה אפשר ליצור?

5) במשחק בול פגיעה יש 10 משבצות, אדם צובע 4 משבצות מתוך ה-10. המשתתף השני צריך לנחש אילו 4 משבצות נצבעו. מה ההסתברות שבניחוש אחד יהיה בול פגיעה?

6) כמה אותות שונים, שכל אחד מורכב מ-10 דגלים שונים, ניתן ליצור, אם 4 דגלים הם לבנים, 3 כחולים, 2 אדומים ואחד שחור. דגלים שווי צבע זהים זה לזה לחלוטין.

תשובות סופיות:

1) 10.

2) 60.

3) 90.

4) 20.

5) $\frac{1}{210}$.

6) 12600.


קומבינטוריקה – סידור עצמים במעגל:

רקע:

מספר האפשרויות לסדר n עצמים שונים במעגל בו אין מקומות מסומנים הוא: $(n-1)!$.

דוגמה (פתרון בהקלטה):

דנה, רמה ושדה רוצות ליצור מעגל ריקוד. בכמה דרכים שונות הן יכולות להחזיק אחת לשנייה את הידיים, כדי ליצור את המעגל?



שאלות:

- (1) מעצב פנים יצר ללקחותיו מניפת צבעים המוצגת במעגל. במניפה 12 צבעים שונים מתוכם 3 בגווני אפור, 3 בגווני לבן, 3 בגווני ירוק ו-3 בגווני צהוב. כמה מניפות שונות ניתן ליצור כאשר:
- גווני האפור צמודים זה לזה.
 - צבעים באותו גוון צמודים זה לזה.



- (2) דני יוצר שרשרת חרוזים הבנויה מעשרה חרוזים בצבעים שונים. הוא משחיל את עשרת החרוזים באקראי. חשבו את ההסתברויות הבאות:
- הסידור יהיה בדיוק כמוראה בציר.
 - החרוז הלבן והכתום יהיו בסמוך זה לזה.

- (3) אבא הכין עוגת יומולדת עגולה. הוא סידר 7 נרות כמוראה בשרטוט. הנרות זהים ונבדלים זה בזה בצבע: 2 כחולים זהים, 2 אדומים זהים, 2 צהובים זהים ו-1 כתום. סידור הנרות נעשה באקראי. חשבו את ההסתברויות הבאות:



- הנרות הצהובים סמוכים זה לזה.
- נרות באותו צבע סמוכים זה לזה.



- (4) n בנימים ו- n בנות הסתדרו במעגל באקראי.
- מה הסיכוי שכל הבנים יסתדרו זה לצד זה בלי להתפצל?
 - מה הסיכוי שכל הבנים יסתדרו זה לצד זה בלי להתפצל וגם כל הבנות יסתדרו זו לצד זו בלי להתפצל?
 - מה הסיכוי שהסידור יהיה שמימין ומשמאל לכל בן תהיה בת?

תשובות סופיות:

$$(1) \quad \text{א. } .2177280 \quad \text{ב. } .7776$$

$$(2) \quad \text{א. } \frac{1}{9!} \quad \text{ב. } \frac{2}{9}$$

$$(3) \quad \text{א. } \frac{1}{3} \quad \text{ב. } \frac{1}{15}$$

$$(4) \quad \text{א. } \frac{(n!)^2}{(2n-1)!} \quad \text{ב. } \frac{(n!)^2}{(2n-1)!} \quad \text{ג. } \frac{(n-1)!(n!)}{(2n-1)!}$$

קומבינטוריקה – דגימה סידורית ללא החזרה ועם החזרה:

רקע:

מדגם סידור בדגימה עם החזרה:

מספר האפשרויות בדגימת k עצמים מתוך n עצמים שונים כאשר הדגימה היא עם החזרה והמדגם סדור הוא: n^k .

דוגמה:

בוחרים שלושה תלמידים מתוך עשרה לייצג ועד בו תפקידים שונים, תלמיד יכול למלא יותר מתפקיד אחד.

כמה ועדים שונים ניתן להרכיב? $10^3 = 1,000$, $k = 3$, $n = 10$.

מדגם סידור ללא החזרה:

מספר האפשרויות בדגימת k עצמים שונים מתוך n עצמים שונים ($n \geq k$) כאשר המדגם סדור ואין החזרה של עצמים נדגמים הינו:

$$\cdot (n)_k = n(n-1)(n-2)\dots(n-(k-1)) = \frac{n!}{(n-k)!}$$

דוגמה:

שלושה תלמידים נבחרים מתוך 10 לייצג וועד בו תפקידים שונים.

תלמיד לא יכול למלא יותר מתפקיד אחד: $\frac{10!}{7!} = 10 \cdot 9 \cdot 8 = 720$.

שאלות:

- (1) במפלגה 20 חברי כנסת, מעוניינים לבחור שלושה חברי כנסת לשלושה תפקידים שונים.
- א. חבר כנסת יכול למלא יותר מתפקיד אחד.
 כמה קומבינציות ישנן לחלוקת התפקידים?
- ב. חבר כנסת לא יכול למלא יותר מתפקיד אחד.
 כמה קומבינציות יש לחלוקת התפקידים?
- (2) במשחק מזל יש 4 משבצות ממוספרות מ-A-D (A עד D). בכל משבצת יש למלא סיפרה (0-9). הזוכה הוא זה שניחש נכונה את כל הספרות בכל המשבצות בהתאמה.
- א. מה ההסתברות לזכות במשחק?
 ב. מה ההסתברות שבאף משבצת לא תהיה את הספרה 3 במספר הזוכה?
 ג. מה ההסתברות שהתוצאה 4 תופיע לפחות פעם אחת במספר הזוכה?
- (3) קבוצה מונה 22 אנשים, מה ההסתברות שלפחות לשניים מהם יהיה יום הולדת באותו התאריך?
- (4) שלושה אנשים קבעו להיפגש במלון הילטון בסינגפור. הבעיה היא שבסינגפור ישנם 5 מלונות הילטון.
- א. מה ההסתברות שכל השלושה ייפגשו?
 ב. מה ההסתברות שכל אחד יגיע לבית מלון אחר?
- (5) בכיתה 40 תלמידים. מעוניינים לבחור חמישה מהם לוועד כיתה. בכמה דרכים ניתן להרכיב את הוועד אם:
- א. בוועד 5 תפקידים שונים ותלמיד יכול למלא יותר מתפקיד אחד.
 ב. בוועד 5 תפקידים שונים ותלמיד לא יכול למלא יותר מתפקיד אחד.

תשובות סופיות:

- (1) א. 8000 ב. 6840
- (2) א. 0.0001 ב. 0.6561 ג. 0.3439
- (3) 0.476
- (4) א. 0.04 ב. 0.48
- (5) א. 40^5 ב. 78,960,960

קומבינטוריקה – דגימה ללא סדר וללא החזרה:

רקע:

מדגם לא סדור בדגימה ללא החזרה:

מספר האפשרויות לדגום k עצמים שונים מתוך n עצמים שונים כאשר אין

משמעות לסדר העצמים הנדגמים ואין החזרה: $\frac{n!}{(n-k)!k!} = \binom{n}{k} = \frac{(n)_k}{k!}$

דוגמה:

מתוך 10 תלמידים יש לבחור שלושה נציגים לוועד ללא תפקידים מוגדרים:

$$\binom{10}{3} = \frac{10!}{7!3!} = 120$$

הערות:

$$\binom{n}{k} = \binom{n}{n-k} \quad (1)$$

$$\binom{n}{n-1} = \binom{n}{1} = n \quad (2)$$

$$\binom{n}{n} = \binom{n}{0} = 1 \quad (3)$$

שאלות:

- (1) בכיתה 15 בנות ו-10 בנים. יש לבחור 5 תלמידים שונים מהכיתה לנציגות הכיתה. בכמה דרכים אפשר להרכיב את הנציגות, אם:
- אין שום הגבלה לבחירה.
 - מעוניינים ש-3 בנות ו-2 בנים ירכיבו את המשלחת.
 - לא יהיו בנים במשלחת.
- (2) סטודנט מעוניין לבחור 5 קורסי בחירה בסמסטר זה. לפניו רשימה של 10 קורסים לבחירה: 5 במדעי הרוח, 3 במדעי החברה, 2 במתמטיקה.
- כמה בחירות שונות הוא יכול ליצור לעצמו?
 - כמה בחירות יש לו בהן 3 קורסים הם ממדעי הרוח?
 - כמה בחירות יש לו אם 2 מהן לא ממדעי הרוח?
 - כמה בחירות יש לו אם 2 ממדעי הרוח, 2 ממדעי החברה ו-1 ממתמטיקה?
- (3) בכיתה 30 תלמידים מתוכם 12 תלמידים ו-18 תלמידות. יש לבחור למשלחת 4 תלמידים מהכיתה. התלמידים נבחרים באקראי.
- מה ההסתברות שהמשלחת תורכב רק מבנות?
 - מה ההסתברות שבמשלחת תהיה רק בת אחת?
 - מה ההסתברות שבמשלחת תהיה לפחות בת אחת?
- (4) במשחק הלוטו יש לבחור 5 מספרים מתוך 45. המספרים הם 1-45.
- מה ההסתברות שבמשחק הזוכה כל המספרים הם זוגיים?
 - מה ההסתברות שבמספר הזוכה יש לכל היותר מספר זוגי אחד?
 - מה ההסתברות שבמספר הזוכה לפחות פעם אחת יש מספר זוגי?
 - מה ההסתברות שבמספר הזוכה כל המספרים גדולים מ-30?
- (5) בחפיסת קלפים ישנם 52 קלפים: 13 בצבע שחור בצורת עלה, 13 בצבע אדום בצורת לב, 13 בצבע אדום בצורת יהלום ו-13 בצבע שחור בצורת תלתן. מכל צורה (מתוך ה-4) יש 9 קלפים שמספרם 10-2, שאר הקלפים הם; נסיך, מלכה, מלך ואס (בעצם מדובר בקופסת קלפים רגילה ללא ג'וקר). שני אנשים משחקים פוקר. כל אחד מקבל באקראי 5 קלפים (ללא החזרה).
- מה ההסתברות שעודד יקבל את כל המלכים וערן את כל המלכות?
 - מה ההסתברות שאחד השחקנים יקבל את הקלף אס-לב?
 - מה ההסתברות שערן יקבל קלפים שחורים בלבד ועודד יקבל שני קלפים שחורים בדיוק?
 - מה ההסתברות שערן יקבל לפחות 3 קלפים שהם מספר (אס אינו מספר)?

- 6 במכללה 4 מסלולי לימוד. בכל מסלול לימוד 5 מזכירות. יש ליצור וועד של 5 מזכירות מתוך כלל המזכירות במכללה. יוצרים וועד באופן אקראי. חשבו את ההסתברויות הבאות:
- א. כל המזכירות בוועד יהיו ממסלול "מדעי ההתנהגות".
 ב. כל המזכירות בוועד יהיו מאותו המסלול.
 ג. מכל מסלול תבחר לפחות מזכירה אחת.

$$7 \quad \text{הוכיחו כי: } \binom{n}{k} + \binom{n}{k+1} = \binom{n+1}{k+1}$$

- 8 $2n$ בנים ו- $2n$ בנות מתחלקים ל-2 קבוצות.
- א. בכמה דרכים שונות ניתן לבצע את החלוקה אם שתי הקבוצות צריכות להיות שוות בגודלן ויש בכל קבוצה מספר שווה של בנים ובנות?
 ב. בכמה דרכים ניתן לבצע את החלוקה אם יש מספר שווה של בנים ובנות בכל קבוצה אבל הקבוצות לא בהכרח בגודל שווה.

תשובות סופיות:

- | | | | |
|-------------------------|-------------------------|-----------|---------------|
| א. 53130 | ב. 20475 | ג. 3003 | 1 |
| א. 252 | ב. 100 | ג. 100 | ד. 100 |
| א. 0.1117 | ב. 0.1445 | ג. 0.9819 | 3 |
| א. 0.02 | ב. 0.187 | ג. 0.972 | ד. 0.00246 |
| א. 0 | ב. 0.1923 | ג. 0.009 | ד. 0.837 |
| א. $6.45 \cdot 10^{-5}$ | ב. $2.58 \cdot 10^{-4}$ | ג. 0.3225 | 6 |
| | | | 7 שאלת הוכחה. |

$$8 \quad \text{א. } \binom{2n}{n} \quad \text{ב. } \sum_{i=1}^n \binom{2n}{i}^2$$

קומבינטוריקה – דגימה ללא סדר ועם החזרה:

רקע:

מספר האפשרויות לבחור k עצמים (לא בהכרח שונים) מתוך n עצמים שונים, ללא חשיבות לסדר העצמים הנדגמים, ועצם יכול להיבחר יותר מפעם אחת:

$$\binom{n+k-1}{k} = \binom{n+k-1}{n-1}$$

דוגמה:

בכמה דרכים שונות ניתן לחלק 4 כדורים זהים לשלושה תאים שבכל תא יש מקום ליותר מכדור אחד? (פתרון והסבר הרעיון בהקלטה)

סיכום כללי של המצבים האפשריים לדגימה:

מספר האפשרויות לבחירת k עצמים מתוך אוכלוסייה של n עצמים שונים		
ללא התחשבות בסדר הבחירה	עם התחשבות בסדר הבחירה	ביצוע הדגימה
$\binom{n+k-1}{k} = \binom{n+k-1}{n-1}$	n^k	עם החזרה
$\binom{n}{k} = \frac{n!}{k!(n-k)!}$	$(n)_k = \frac{n!}{(n-k)!}$	ללא החזרה

שאלות:

- (1) בכמה דרכים יש להכניס 8 כדורים זהים לחמישה תאים כאשר תא יכול להכיל יותר מכדור אחד?
- (2) בכמה אופנים ניתן להכניס 5 מחברות זהות ל-3 תיקים שונים?
- (3) בכמה אופנים ניתן להכניס 8 כדורים לתוך 3 תאים שונים כאשר:
 א. הכדורים זהים.
 ב. הכדורים שונים זה מזה.
- (4) בכמה דרכים יש לסדר 10 משחקים ב-4 מגירות כאשר:
 א. המשחקים שונים זה מזה.
 ב. במשחקים זהים זה לזה.
- (5) מהו מספר הפתרונות השלמים האי שליליים למשוואה הבאה: $X_1 + X_2 = 3$.
- (6) מהו מספר הפתרונות השלמים האי-שליליים למשוואה הבאה:
 $X_1 + X_2 + X_3 + X_4 = 20$.
- (7) במכירה פומבית הוצגו 4 פמוטי זהב זהים לחלוטין. על קניית היצירות התחרו 3 אספנים. אספן יכול היה לרכוש יותר מפמוט אחד. בהנחה וכל הפמוטים נמכרו, כמה אפשרויות מכירה לאספנים השונים ישנן?
- (8) נתונות האותיות: A, B, C ו-D. נרצה לבחור שתי אותיות מתוך קבוצת האותיות הללו כאשר מותר לבחור אותה אות יותר מפעם אחת אבל אין חשיבות לסדר האותיות שנבחרו. כמה דרכים ישנן לבחירה?
- (9) במשחק הלוטו החדש יש לבחור ארבעה מספרים מתוך המספרים 1-20. אין חשיבות לסדר הפנימי של המספרים, אלא רק לגלות אילו מספרים עלו בגורל. מה הסיכוי לגלות את המספרים שעלו בגורל אם:
 א. אסור לבחור את אותו מספר יותר מפעם אחת.
 ב. מותר לחזור על אותו מספר יותר מפעם אחת.

- (10)** ישנם 5 כדורים להכניס ל-6 תאים.
חשבו את מספר האפשרויות להכנסת הכדורים כאשר:
- א. הכדורים שונים ותא יכול להכיל יותר מכדור אחד.
 - ב. הכדורים זהים ותא יכול להכיל יותר מכדור אחד.
 - ג. הכדורים שונים ותא לא יכול להכיל יותר מכדור אחד.
 - ד. הכדורים זהים ותא לא יכול להכיל יותר מכדור אחד.

- (11)** ישנם k כדורים להכניס ל- n תאים ($n > k$).
חשבו את מספר האפשרויות להכנסת הכדורים כאשר:
- א. הכדורים שונים ותא יכול להכיל יותר מכדור אחד.
 - ב. הכדורים זהים ותא יכול להכיל יותר מכדור אחד.
 - ג. הכדורים שונים ותא לא יכול להכיל יותר מכדור אחד.
 - ד. הכדורים זהים ותא לא יכול להכיל יותר מכדור אחד.

תשובות סופיות:

- (1) .495
- (2) .21
- (3) א. .45 ב. .6561
- (4) א. 4^{10} ב. .286
- (5) .4
- (6) .1771
- (7) .15
- (8) .10
- (9) א. $\frac{1}{4845}$ ב. $\frac{1}{8855}$
- (10) א. 7776 ב. .252 ג. .720 ד. .6
- (11) א. n^k ב. $\binom{n+k-1}{k} = \binom{n+k-1}{n-1}$ ג. $\binom{n}{k} = \frac{n!}{(n-k)!}$ ד. $\binom{n}{k} = \frac{n!}{k!(n-k)!}$

קומבינטוריקה – שאלות מסכמות:

שאלות:

- (1) בכיתה 40 תלמידים. מעוניינים לבחור חמישה מהם לוועד כיתה. בכמה דרכים ניתן להרכיב את הוועד אם:
- בוועד 5 תפקידים שונים ותלמיד יכול למלא יותר מתפקיד אחד.
 - בוועד 5 תפקידים שונים ותלמיד לא יכול למלא יותר מתפקיד אחד.
 - אין תפקידים שונים בוועד.
- (2) במשרד 30 עובדים, יש לבחור ארבעה עובדים למשלחת לחו"ל. בכמה דרכים ניתן להרכיב את המשלחת?
- במשלחת ארבע משימות שונות שיש למלא וכל עובד יכול למלא יותר ממשימה אחת.
 - כמו בסעיף א' רק הפעם עובד לא יכול למלא יותר ממשימה אחת.
 - מעוניינים לבחור ארבעה עובדים שונים למשלחת שבה לכולם אותו התפקיד.
- (3) מעוניינים להרכיב קוד סודי. הקוד מורכב מ-2 ספרות שונות ו-3 אותיות שונות באנגלית (26 אותיות אפשריות).
- כמה קודים שונים ניתן להרכיב?
 - כמה קודים שונים ניתן להרכיב אם הקוד מתחיל בספרה ונגמר בספרה?
 - כמה קודים ניתן להרכיב אם הספרות חייבות להיות צמודות זו לזו?
 - בכמה קודים הספרות לא מופיעות ברצף?
- (4) בארונית 4 מגירות. ילד התבקש על ידי אמו לסדר 6 משחקים בארונית. הילד מכניס את המשחקים באקראי למגירות השונות. כל מגירה יכולה להכיל את כל המשחקים יחד.
- מה ההסתברות שהילד יכניס את כל המשחקים למגירה העליונה?
 - מה ההסתברות שהילד יכניס את כל המשחקים לאותה מגירה?
 - מה ההסתברות ש"דומינו" יוכנס למגירה העליונה ויתר המשחקים לשאר המגירות.
 - מה ההסתברות ש"דומינו" לא יוכנס למגירה העליונה?

- (5) בעיר מסוימת מתמודדות למועצת העיר 4 מפלגות שונות: "הירוקים", "קדימה", "העבודה" ו"הליכוד". 6 אנשים אינם יודעים למי להצביע, ולכן בוחרים באקראי מפלגה כלשהי.
- מה ההסתברות שכל ה-6 יבחרו באותה מפלגה?
 - מה ההסתברות שמפלגת ה"ירוקים" לא תקבל קולות?
 - מה ההסתברות שמפלגת ה"ירוקים" תקבל בדיוק 3 קולות וכל מפלגה אחרת תקבל קול 1 בלבד?
 - מה ההסתברות שמפלגת "הירוקים" תקבל 2 קולות, מפלגת "העבודה" תקבל 2 קולות ומפלגת "הליכוד" תקבל 2 קולות?
- (6) 5 חברים נפגשו ורצו לראות סרט. לרשותם ספריה המונה 8 סרטים שונים. כל אחד התבקש לבחור סרט באקראי.
- מה ההסתברות שכולם יבחרו את אותו הסרט?
 - מה ההסתברות שכולם יבחרו את "הנוסע השמיני"?
 - מה ההסתברות שכל אחד יבחר סרט אחר?
 - מה הסיכוי שלפחות שניים יבחרו את אותו הסרט?
 - מה ההסתברות שיוסי וערן ייבחרו את "הנוסע השמיני" וכל השאר סרטים אחרים?
 - מה ההסתברות שהנוסע השמיני לא ייבחר על ידי אף אחד מהחברים?
 - לקחו את 8 הסרטים ויצרו מהם רשימה. נתון שברשימה 3 סרטי אימה, מה ההסתברות שברשימה שנוצרה יופיעו 3 סרטי האימה ברצף?
- (7) בקבוצה 10 אנשים. יש ליצור שתי וועדות שונות מתוך הקבוצה: אחת בת 4 אנשים והשנייה בת 3 אנשים. כל אדם יכול להיבחר רק לוועדה אחת. חשבו את מס' הדרכים השונות ליצירת הוועדות הללו כאשר:
- אין בוועדות תפקידים.
 - בכל וועדה יש תפקיד אחד של אחראי הוועדה.
 - בכל וועדה כל התפקידים שונים.
- (8) 4 גברים ו-3 נשים מתיישבים על כסאות בשורה של כסאות תיאטרון. בכל שורה 10 כסאות. בכמה דרכים שונות ניתן לבצע את ההושבה:
- ללא הגבלה.
 - כל הגברים ישבו זה ליד זה וגם כל הנשים תשבנה זו ליד זו.
 - שני גברים בקצה אחד ושני הגברים האחרים בקצה שני.
- (9) בהגרלה ישנם 10 מספרים מ-1 עד 10. נבחרו באקראי 5 מספרים. מה ההסתברות שהמספר 7 הוא השני בגודלו מבין המספרים שנבחרו?

- 10** 6 אנשים עלו לאוטובוס שעוצר ב-10 תחנות.
 כל אדם בוחר באופן עצמאי ואקראי באיזו תחנה לרדת.
 א. מה ההסתברות שכל אחד יורד בתחנה אחרת?
 ב. מה ההסתברות שבדיוק 3 ירדו בתחנה החמישית?
 ג. מה ההסתברות שרונית תרד בתחנה השנייה והשאר לא?
 ד. מה ההסתברות שכולם ירדו בתחנות 5,6 ולפחות אחד בכל אחת מהתחנות הללו?

- 11** ברכבת 4 מקומות ישיבה עם כיוון הנסיעה 41 מקומות ישיבה נגד כיוון הנסיעה.



- 4 זוגות התיישבו במקומות אלו באקראי.
 א. בכמה דרכים שונות ניתן להתיישב?
 ב. מה ההסתברות שהזוג כהן ישבו זה לצד זה עם כיוון הנסיעה?
 ג. מה ההסתברות שהזוג כהן ישבו זה לצד זה?
 ד. מה ההסתברות שהזוג כהן ישבו כל אחד ליד החלון? (בכל שורה יש חלון).
 ה. מה ההסתברות שהזוג כהן יישבו כך שכל אחד בכיוון נסיעה מנוגד?
 ו. מה ההסתברות שהזוג כהן יישבו אחד מול השני פנים מול פנים.
 ז. מה ההסתברות שכל הגברים ייסעו עם כיוון הנסיעה וכל הנשים תשבנה נגד כיוון הנסיעה?
 ח. מה ההסתברות שכל זוג ישב אחד מול השני?

- 12** סיסמא מורכבת מ-5 תווים, תווים אלו יכולים להיות ספרה (0-9) ואותיות ה-ABC (26 אותיות). כל תו יכול לחזור על עצמו יותר מפעם אחת.
 א. כמה סיסמאות שונות יש?
 ב. כמה סיסמאות שונות יש שבהן כל התווים שונים?
 ג. כמה סיסמאות שונות יש שבהן לפחות ספרה אחת ולפחות אות אחת?

- 13** מתוך קבוצה בת n אנשים רוצים לבחור 3 אנשים לוועדה. בכמה דרכים שונות ניתן לבצע את הבחירה? בטא את תשובתך באמצעות n .
 א. בוועדה אין תפקידים ויש לבחור 3 אנשים שונים לוועדה.
 ב. בוועדה תפקידים שונים. וכל אדם לא יכול למלא יותר מתפקיד אחת.
 ג. בוועדה תפקידים שונים ואדם יכול למלא יותר מתפקיד אחד.

- 14** שני אנשים מטילים כל אחד מטבע n פעמים. בטאו באמצעות n את הסיכוי שלכל אחד מהם אותו מספר פעמים של התוצאה "ראש".

- 15** יוצרים קוד עם a ספרות (מותר לחזור על אותה ספרה בקוד).
 חשבו את ההסתברויות הבאות (בטאו את תשובותיכם באמצעות a):
- בקוד אין את הספרה 5.
 - בקוד מופיעה הספרה 3.
 - בקוד לא מופיעות ספרות אי זוגיות.
- 16** זוג קוביות הוטלו מספר פעמים. כמה פעמים יש להטיל את זוג הקוביות בכדי שבהסתברות של לפחות 0.5 תתקבל לפחות הטלה אחת (של הזוג) עם סכום תוצאות 12?
- 17** בוחרים באופן מקרי מספר בין 6 ספרות.
- מה הסיכוי שהספרה 5 תופיע בדיוק פעם אחת במספר?
 - מה הסיכוי שהספרה 4 תופיע לפחות פעם אחת וגם הספרה 0 תופיע לפחות פעם אחת במספר?
- 18** במשרד של דנה 5 תיקיות אותן היא מסדרת באקראי בטור. 3 תיקיות הן אדומות ו-2 תיקיות הן כחולות. דנה רשמה שני פתקים ושמה כל פתק במקום אקראי בין התיקיות (לכל פתק יש 4 אפשרויות למיקום).
- מה הסיכוי ששני הפתקים יהיו במקומות שונים?
 - מה הסיכוי שבין שני הפתקים יש שתי תיקיות אדומות ואין תיקיות כחולות?
 - מה הסיכוי שבין שני הפתקים יש בדיוק תיקיה אחת?
 - מה הסיכוי שבין שני הפתקים יש שתי תיקיות ואחת מהן כחולה?
- 19** לירון 6 עטים אותם הוא מכניס באקראי ל-3 קלמרים שונים. לכל עט הוא בוחר באופן מקרי קלמר.
- מה הסיכוי שיש בדיוק 2 קלמרים שבכל קלמר בדיוק 2 עטים?
 - מה הסיכוי שיש בדיוק קלמר אחד שבו בדיוק 2 עטים?
 - מה הסיכוי שיש בדיוק 3 קלמרים שבכל אחד בדיוק 2 עטים?
- 20** מסדרים n כדורים שונים ב n תאים שונים (תא יכול להכיל יותר מכדור אחד). מה הסיכוי שבתא i ($1 \leq i \leq n$) יהיו בדיוק k כדורים?
- 21** בתחרות ריצה עלו לגמר 6 מתמודדים. רק בשלושת המקומות הראשונים זוכים במדליות. נניח שכל המתמודדים מסיימים את התחרות.
- כמה אפשרויות יש לסיים את התחרות?
 - כמה אפשרויות יש לכך שמתמודד מספר 6 יקבל מדליה?
 - כמה אפשרויות יש לכך שמתמודד מספר 6 יקבל מדליה או שמתמודד מספר 2 יקבל מדליית זהב?

- (22)** מטילים קובייה הוגנת k פעמים.
- מה הסיכוי שהתוצאה הכי גדולה שהתקבלה היא j ?
 - מה הסיכוי שהתוצאה הכי קטנה שהתקבלה היא i ?
 - עבור $i \leq j$, מה הסיכוי שהתוצאה הכי גדולה היא j וגם התוצאה הכי קטנה היא i ?

תשובות סופיות:

- (1) א. 102,400,000 ב. 78,960,960 ג. 658008
- (2) א. 810,000 ב. 657,720 ג. 27,405
- (3) א. 14,040,000 ב. 1,404,000 ג. 5,616,000 ד. 8,424,000
- (4) א. 0.00024 ב. 0.00098 ג. 0.05933 ד. 0.75000
- (5) א. 0.00098 ב. 0.17798 ג. 0.02929 ד. 0.02197
- (6) א. $\frac{1}{4096}$ ב. $\frac{1}{32,768}$ ג. 0.205 ד. 0.795
- ה. 0.0105 ו. 0.5129 ז. 0.1071
- (7) א. 4,200 ב. 50,400 ג. 604,800
- (8) א. 604,800 ב. 2,880 ג. 2,880
- (9) 0.238
- (10) א. 0.1512 ב. 0.014 ג. 0.059 ד. $\frac{62}{10^6}$
- (11) א. 40,320 ב. 0.1071 ג. 0.2142 ד. 0.0357
- ה. 0.5714 ו. 0.1429 ז. 0.0143 ח. 0.0095
- (12) א. 60,466,176 ב. 45,239,040 ג. 48,484,800
- (13) א. $\frac{n!}{3!(n-3)}$ ב. $n \cdot (n-1)(n-2)$ ג. n^3
- (14) $\frac{1}{4^n} \cdot \sum_{i=0}^n \binom{n}{i}^2$
- (15) א. 0.9^a ב. $1-0.9^a$ ג. 0.5^a
- (16) לפחות 25 פעמים.
- (17) א. 0.35721 ב. 0.1759
- (18) א. 0.75 ב. 0.075 ג. 0.375 ד. 0.15
- (19) א. 0 ב. $\frac{450}{729}$ ג. $\frac{90}{729}$
- (20) $\frac{\binom{n}{k} (n-1)^{n-k}}{n^n}$
- (21) א. 720 ב. 360 ג. 432

$$(22) \quad \text{א. } \frac{j^k - (j-1)^k}{6^k} \quad \text{ב. } \frac{(7-i)^k - (6-i)^k}{6^k} \quad \text{ג. } \frac{(j-i+1)^k - 2 \cdot (j-i)^k + (j-i-1)^k}{6^k}$$

מכינה במתמטיקה להנדסת מכונות

פרק 16 - כלל ההכלה וההפרדה

תוכן העניינים

1. כלל ההכלה וההפרדה 243

כלל ההכלה וההפרדה:

רקע:

אנו מעוניינים בנוסחה לחישוב הסתברות של איחוד מאורעות. אם קיימים n מאורעות זרים בזוגות, הסיכוי לאיחוד המאורעות הוא סכום ההסתברויות של כלל המאורעות.

$$P\left(\bigcup_{i=1}^n A_i\right) = \sum_{i=1}^n P(A_i)$$

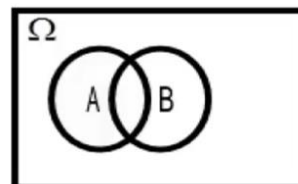


אם דנים במאורעות שאינם בהכרח זרים בזוגות, סכימת ההסתברויות של כלל המאורעות תוביל לספירה כפולה של חלק מהמאורעות. למשל: אדם מטיל קובייה. מה הסיכוי לקבל תוצאה זוגית או את התוצאה 2 לכל היותר?

בדוגמה שהוצגה לעיל מדובר בהסתברות לאיחוד שני מאורעות ומתקיים:

$$P(A_1 \cup A_2) = P(A_1) + P(A_2) - P(A_1 \cap A_2)$$

אפשר להמחיש זאת באמצעות דיאגרמת ון:

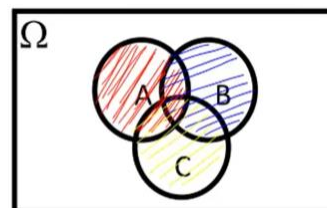


נוסחה זו היא נוסחת ההכלה וההפרדה לשני מאורעות.

במקרה של שלושה מאורעות נוסחת ההכלה וההפרדה תיראה כך:

$$P(A_1 \cup A_2 \cup A_3) = P(A_1) + P(A_2) + P(A_3) - P(A_1 \cap A_2) - P(A_1 \cap A_3) - P(A_2 \cap A_3) + P(A_1 \cap A_2 \cap A_3)$$

אפשר להמחיש זאת באמצעות דיאגרמת ון:



כעת נכליל את הנוסחה ל- n מאורעות:

$$P\left(\bigcup_{i=1}^n A_i\right) = \sum_{i=1}^n P(A_i) - \sum_{i<j} P(A_i \cap A_j) + \sum_{i<j<k} P(A_i \cap A_j \cap A_k) \dots + (-1)^{n-1} P\left(\bigcap_{i=1}^n A_i\right)$$

**דוגמה (פתרון בהקלטה):**

מטילים חמש קוביות. מה ההסתברות שלפחות אחת מהתוצאות הבאות לא תתקבל באף אחת מהקוביות: 1, 2, 3, 4?

שאלות:

(1) רני קיבלה ליום הולדתה חמש מתנות וסידרה אותן בשורה מימין לשמאל.



- א. מה ההסתברות שהמתנה העטופה בנייר מנוקד לא תהיה הראשונה בשורה והמתנה העטופה בסרט ירוק לא תהיה האחרונה בשורה?
 ב. מה ההסתברות שלפחות אחד מהמאורעות הבאים יתרחש?
 i. המתנה העטופה בנייר מנוקד לא תהיה השנייה בשורה.
 ii. המתנה הקטנה ביותר לא תהיה השנייה בשורה.
 iii. המתנה העטופה בנייר חום לא תהיה השלישית בשורה.

(2) אדם הטיל קובייה ארבע פעמים. נגדיר את המאורעות הבאים:



- A: התוצאה 1 התקבלה לפחות פעם אחת.
 B: התוצאה 2 התקבלה לפחות פעם אחת.
 C: התוצאה 3 התקבלה לפחות פעם אחת.

חשבו את ההסתברויות הבאות:

- א. $P(A \cap B)$
 ב. $P(A \cap B \cap C)$

(3) מפזרים באופן מקרי חמישה כדורים בעשרה תאים. הכדורים ממוספרים מ-1 עד 5. אין הגבלה על מספר הכדורים בכל תא.



חשבו את ההסתברויות הבאות:

- א. לפחות אחד משני התאים השמאליים ריק.
 ב. לפחות אחד משלושת התאים השמאליים ריק.
 ג. שני התאים השמאליים תפוסים.
 ד. ארבעת התאים השמאליים תפוסים.

(4) בוחרים מספר אקראי מהמספרים: $\Omega = \{1, 2, \dots, 1000\}$.
 מה ההסתברות שהמספר שנבחר יתחלק לפחות באחד מהמספרים: 2, 3, 5?



(5) עשרה ילדי גן נתבקשו לבחור גיבור-על מרשימה של 14 גיבורי-על. אם כל ילד בוחר באקראי מתוך הרשימה ללא תלות בילדים אחרים, מה ההסתברות שבדיוק שישה גיבורי-על ייבחרו?

(6) ניסוי מקרי הוא בעל מרחב המדגם: $\Omega = \{1, 2, 3, \dots\}$.
 (6) $P(n)$ הוא ההסתברות לקבל את התוצאה n ממרחב המדגם. נתון ש: $P(n) = A \cdot 0.5^n$. כמו כן נתון ש- A הוא קבוע חיובי.
 א. מצאו את ערכו של הפרמטר A .
 ב. חשבו את: $P(n > 6)$.
 ג. חשבו את הסיכוי שהתוצאה שתתקבל בניסוי תהיה אי-זוגית.

(7) יוצרים מספר בן 8 ספרות מהספרות: $1, 2, \dots, 8$. במספר שיוצרים כל ספרה מופיעה בדיוק פעם אחת.
 א. מה ההסתברות שבמספר לא מופיעים הרצפים: $12, 34, 56$?
 ב. מה ההסתברות שבמספר מופיע לפחות אחד מהרצפים: $123, 234, 567$?



(8) מסדרים בשורה שמונה נעליים שהן ארבעה זוגות. מה ההסתברות שלפחות שתי נעליים שהן זוג יהיו זו לצד זו בשורה?

(9) מפזרים באופן מקרי m כדורים ל- n תאים שונים ($m \geq n$). תא יכול להכיל גם יותר מכדור אחד. מצאו ביטוי להסתברות שבכל תא יהיה לפחות כדור אחד. אין צורך לפשט את הביטוי שקיבלתם.



(10) בכיתה יש n תלמידים, ולכל תלמיד יומן אישי. המורה אסף את היומנים של כל התלמידים. יום למחרת חילק לכל תלמיד יומן מהיומנים שאסף, אך החלוקה הייתה אקראית (תלמיד לא בהכרח קיבל את היומן האישי שלו).

א. מה ההסתברות שאף תלמיד לא קיבל את היומן האישי שלו?

ב. למה שואפת ההסתברות מהסעיף הקודם אם: $n \rightarrow \infty$?



11 על השולחן עשרה מסמכים. מכניסים כל מסמך לאחת משמונה תיקיות ריקות באופן אקראי. לכל תיקייה צבע אחר. אין הגבלה על מספר המסמכים שיכולים להימצא בכל אחת מהתיקיות.

א. מה ההסתברות שבתיקייה האדומה יהיו בדיוק שני מסמכים?

ב. מה ההסתברות שהתיקייה הצהובה תישאר ריקה וגם בתיקייה הירוקה יהיה לפחות מסמך אחד?

ג. מה ההסתברות שיהיו לפחות שש תיקיות ריקות?

ד. מה ההסתברות שיהיו בדיוק שתי תיקיות ריקות?

תשובות סופיות:

(1) א. 0.65 ב. $\frac{59}{60}$

(2) א. 0.233 ב. $\frac{1}{12}$

(3) א. 0.8533 ב. 0.9565 ג. 0.1467 ד. 0.0096

(4) 0.734

(5) 0.1706

(6) א. 1 ב. 0.015625 ג. $\frac{2}{3}$

(7) א. 0.6756 ב. 0.0496

(8) 0.6571

(9) $1 - \frac{\sum_{i=1}^n \binom{n}{i} (n-i)^m \cdot (-1)^{i-1}}{n^m}$

(10) א. $\sum_{i=2}^n \frac{(-1)^i}{i!}$ ב. 0.3679

(11) א. 0.2416 ב. 0.2068 ג. 0.00003 ד. 0.4286

מכינה במתמטיקה להנדסת מכונות

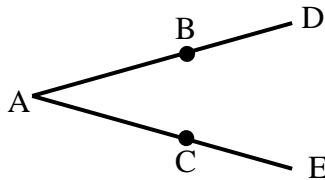
פרק 17 - מבוא לגאומטריה של המישור

תוכן העניינים

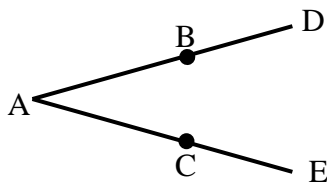
1. הגדרות כלליות (ללא ספר) 248
2. חיבור וחסור קטעים 249
3. חישובי זוויות וחיבור וחסור זוויות 251
4. זוויות קדקודיות וזוויות צמודות 253
5. זוויות בין ישרים מקבילים

חיבור וחיסור קטעים:

שאלות:

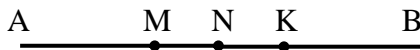


- (1) באיור שלפניך נתון: $AB = AC$, $BD = CE$.
 הוכח: $AD = AE$.



- (2) באיור שלפניך נתון: $AD = AE$, $AB = AC$.
 הוכח: $BD = CE$.

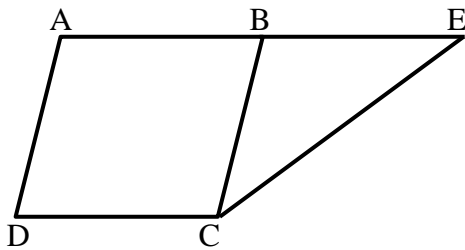
- (3) הנקודות A, M, N, K, B נמצאות על ישר אחד.



- נתון כי: $AM = KB$, $MN = NK$.
 הוכח: $AN = BN$.

- (4) בסרטוט שלפניך נתון כי: $BC = AB$, $BE + BC = 2AB$.

הוכח: $AB = BE$.

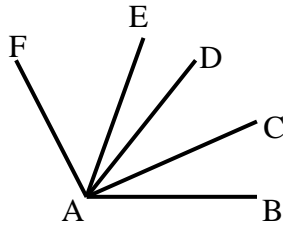


תשובות סופיות:

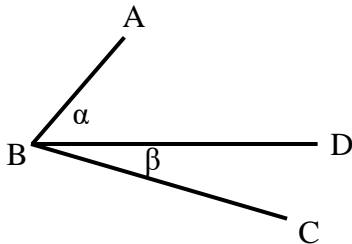
- (1) שאלת הוכחה.
 (2) שאלת הוכחה.
 (3) שאלת הוכחה.
 (4) שאלת הוכחה.

חישובי זוויות וחיבור וחסור זוויות:

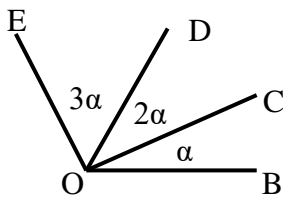
שאלות:



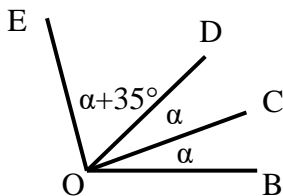
- (5) נתון: $\angle CAB = \angle DAC$, $\angle FAE = 2 \cdot \angle EAD$,
 וכן: $\angle EAB = 80^\circ$, $\angle FAD = 60^\circ$.
 חשב את הזוויות הבאות:
 $\angle FAB$, $\angle EAC$, $\angle CAB$



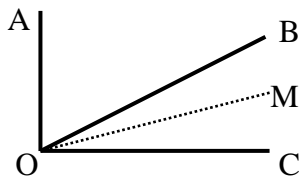
- (6) באיור שלפניך נתון: $\angle ABC = 69^\circ$.
 נתון כי: $\alpha = 2\beta$ (זוויות סמוכות).
 מצא את α ואת β .



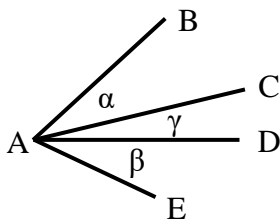
- (7) באיור שלפניך מספר קרניים היוצאים מהנקודה O.
 הנתונים הם: $\angle EOB = 138^\circ$.
 חשב את הזוויות הבאות:
 $\angle EOD$, $\angle DOC$, $\angle COB$



- (8) באיור שלפניך נתון: $\angle EOB = 110^\circ$.
 שאר הנתונים מופיעים בתרשים.
 חשב את הזוויות הבאות:
 $\angle EOC$, $\angle DOC$



- (9) נתון האיור הבא ובו: $\angle AOC = 90^\circ$.
 OM חוצה את זווית BOC.
 מתקיים: $\angle AOB = 3\angle MOC$.
 חשב את: $\angle AOM$, $\angle BOM$



- (10) בסרטוט שלפניך נתון: $\alpha = \beta$.
 הוכח כי: $\angle BAD = \angle EAC$.

תשובות סופיות:

$$\cdot \angle FAB = 120^\circ, \angle EAC = 50^\circ, \angle CAB = 30^\circ \quad (5)$$

$$\cdot \alpha = 46^\circ, \beta = 23^\circ \quad (6)$$

$$\cdot \angle BOC = 23^\circ, \angle COD = 46^\circ, \angle DOE = 69^\circ \quad (7)$$

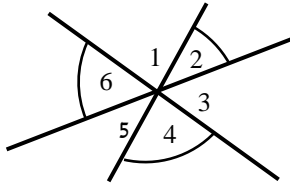
$$\cdot \angle EOC = 85^\circ, \angle DOC = 25^\circ \quad (8)$$

$$\cdot \angle AOM = 72^\circ, \angle BOM = 18^\circ \quad (9)$$

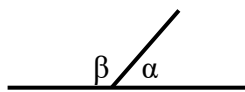
$$(10) \text{ שאלת הוכחה.}$$

זוויות קדקודיות וזוויות צמודות:

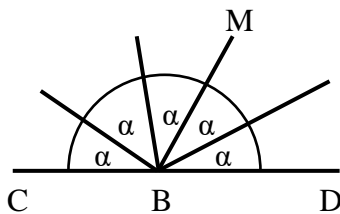
שאלות:



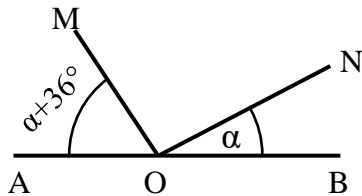
- 11) חשב את סכום הזוויות הבאות (נמק):
 $\sphericalangle 2 + \sphericalangle 4 + \sphericalangle 6$



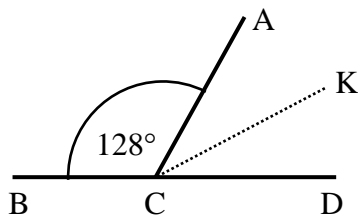
- 12) באיור שלפניך הזוויות α ו- β הן זוויות צמודות.
 ידוע כי: $\alpha = 63^\circ$.
 מצא את זווית β .



- 13) באיור שלפניך הזווית CBD היא שטוחה.
 כל הזוויות שוות ל- α .
 א. חשב את α .
 ב. חשב את זווית CBM.



- 14) בסרטוט שלפניך ידוע:
 הזווית AOB היא שטוחה.
 נתון: $\alpha = 27^\circ$.
 הוכח כי: $MO \perp NO$.



- 15) הזוויות $\sphericalangle ACB$ ו- $\sphericalangle ACD$ הן צמודות.
 ידוע כי CK חוצה זווית ACD.
 כמו כן: $\sphericalangle ACB = 128^\circ$.
 חשב את זווית BCK.

תשובות סופיות:

(11) 180° .

(12) $\beta = 117^\circ$.

(13) א. $\alpha = 36^\circ$. ב. $\sphericalangle CBM = 108^\circ$.

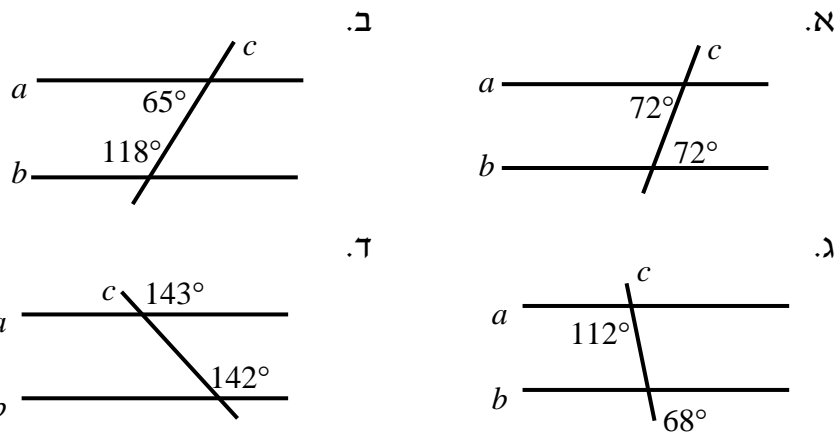
(14) שאלת הוכחה.

(15) $\sphericalangle BCK = 154^\circ$.

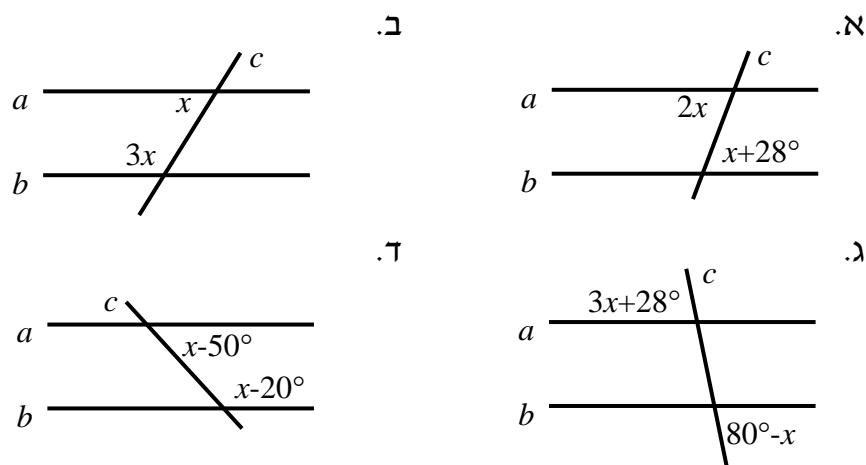
זוויות בין ישרים מקבילים:

שאלות:

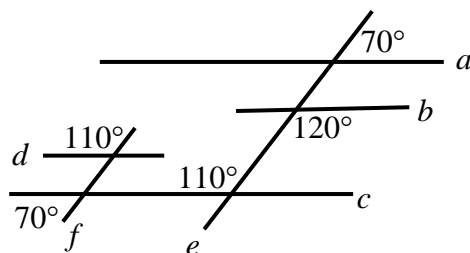
16) קבע בכל מקרה האם הישרים a ו- b מקבילים או שלא. נמק.

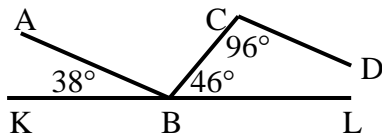


17) הישרים a ו- b מקבילים. מצא את x בכל אחד מהמקרים הבאים:

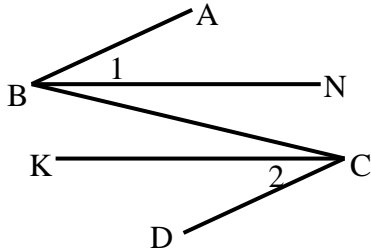


18) מצא את זוויות הישרים המקבילים בסרטוט הבא. נמק.

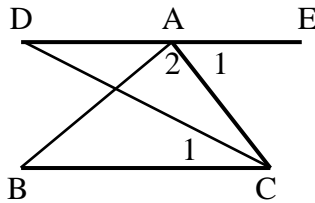




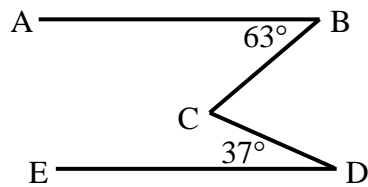
19 בסרטוט שלפניך נתון כי KL הוא קו ישר.
שאר הזוויות מופיעות בתרשים.
הוכח כי: $AB \parallel CD$.



20 באיור שלפניך נתון כי:
 $\angle B_1 = \angle C_2$, $\angle ABC = \angle BCD$
הוכח כי: $BN \parallel CK$.



21 באיור שלפניך מופיע קטע ישר DE.
מהנקודה A מעבירים את הקטעים AB ו-AC.
מחברים את BC וידוע כי $BC \parallel DE$.
מעבירים את CD – חוצה זווית C.
נתון: $\angle A_1 = 68^\circ$, $\angle A_2 = 85^\circ$.
א. חשב את הזווית $\angle C_1$.
ב. חשב את הזווית $\angle B$.



22 בסרטוט שלפניך נתון:
 $\angle D = 37^\circ$, $\angle B = 63^\circ$, $AB \parallel DE$.
חשב את גודל הזווית BCD.

תשובות סופיות:

16) א. כן ב. לא ג. כן ד. לא.

17) א. 28° ב. 45° ג. 13° ד. 125° .

18) $a \parallel c \parallel d, e \parallel f$.

19) שאלת הוכחה.

20) שאלת הוכחה.

21) א. 34° ב. 27° .

22) $\sphericalangle BCD = 100^\circ$.

מכינה במתמטיקה להנדסת מכונות

פרק 18 - גיאומטריה אוקלידית - משולשים

תוכן העניינים

256	1. הגדרות כלליות
258	2. זוויות במשולשים
261	3. משולש שווה שוקיים ושווה צלעות
263	4. חפיפת משולשים
269	5. זווית חיצונית במשולש
270	6. משולש ישר זווית
273	7. קטע אמצעים במשולש
275	8. מפגש תיכונים במשולש

הגדרות כלליות:

סוגי משולשים:

ניתן למיין את המשולשים לפי זוויות או לפי צלעות.
 לפי זוויות:

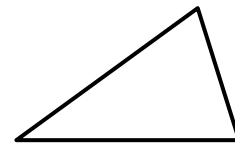
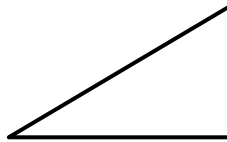
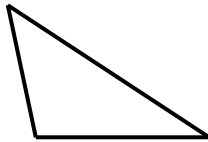
1. משולש חד זווית – משולש שכל זוויותיו חדות.
2. משולש ישר זווית – משולש בעל זווית ישרה.
3. משולש קהה זווית – משולש בעל זווית קהה.

לפי צלעות:

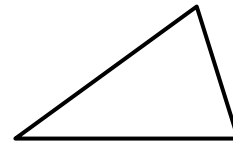
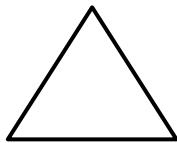
4. משולש שונה צלעות – משולש שבו כל הצלעות שונות באורכן.
5. משולש שווה שוקיים – משולש שבו שתי צלעות שוות.
6. משולש שווה צלעות – משולש שבו כל הצלעות שוות באורכן.

איורים לכל מקרה לפי המספרים:

1. משולש חד זווית: 2. משולש ישר זווית: 3. משולש קהה זווית:



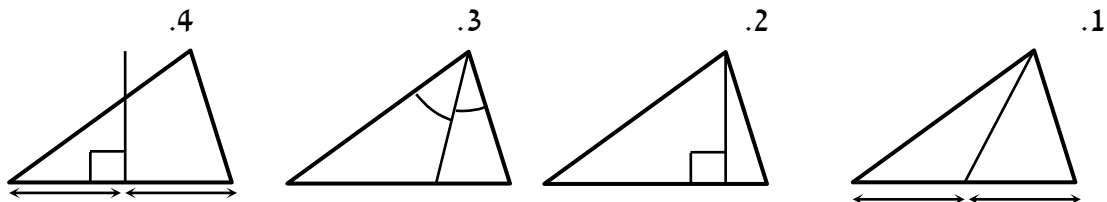
4. משולש שונה צלעות: 5. משולש שווה שוקיים: 6. משולש שווה צלעות:



קטעים מיוחדים במשולשים:

1. תיכון – קטע היוצא מקדקוד לצלע שממולו וחוצה אותה.
2. גובה – קטע היוצא מקדקוד לצלע שממולו ומאונך לה.
3. חוצה זווית – קטע היוצא מקדקוד וחוצה את הזווית שממנה הוא יוצא.
4. אנך אמצעי – קטע היוצא מאמצע צלע ומאונך לה.

איורים לכל מקרה לפי המספרים:



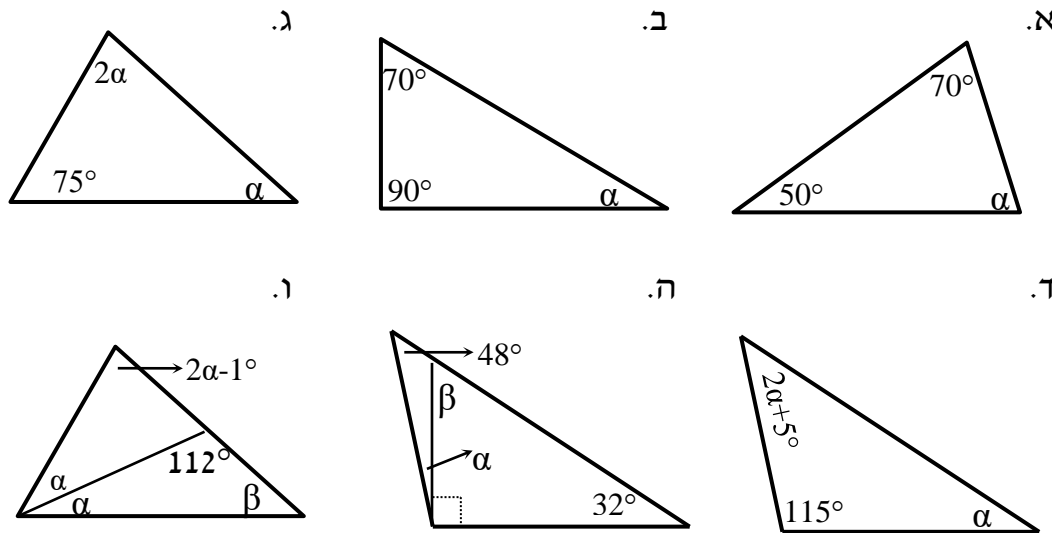
משפטים כלליים במשולשים:

- סכום הזוויות במשולש הוא 180° .
- סכום שתי צלעות במשולש גדול מהצלע השלישית.
- במשולש מול הזווית הגדולה נמצאת הצלע הגדולה ולהפך.
- במשולש מול הזווית הקטנה נמצאת הצלע הקטנה ולהפך.
- במשולש מול זוויות שוות נמצאות צלעות שוות ולהפך.

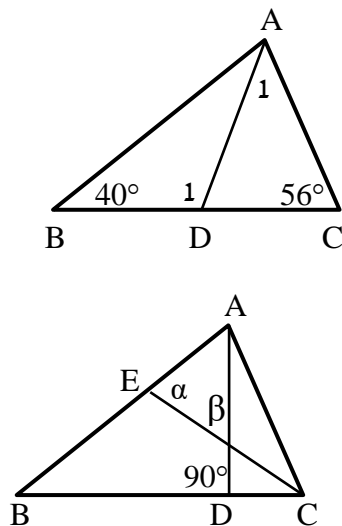
זוויות במשולשים:

שאלות:

(1) חשב את הזוויות בכל אחד מהמשולשים שלפניך:

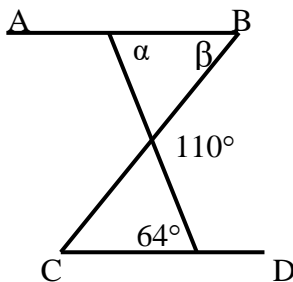


(2) במשולש שלפניך נתון AD חוצה זווית A.
 נתון: $\angle B = 40^\circ$, $\angle C = 56^\circ$.
 חשב את הזוויות $\angle A_1$, $\angle D_1$.



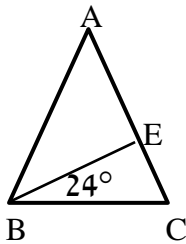
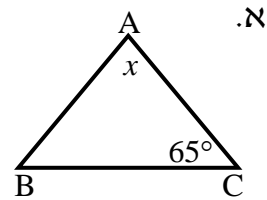
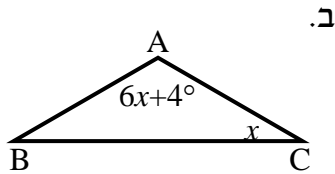
(3) נתון משולש ABC ובו AD גובה לצלע BC.
 $\angle D = 90^\circ$ הקטע CE חוצה זווית C.
 כמו כן: $\alpha = 75^\circ$, $\beta = 63^\circ$.
 חשב את זוויות המשולש ABC.

(4) בסרטוט שלפניך נתון: $AB \parallel CD$.
 מצא את הזוויות α ו- β .



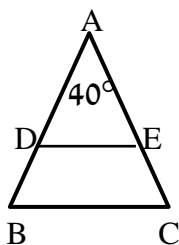
(5) שלוש זוויות המשולש מתייחסות זו לזו כמו: 1:2:6.
 חשב את זוויות המשולש.

- 6 בסרטטים שלפניך נתונים משולשים שווי שוקיים ($AB = AC$) שאחת מזוויותיהם נתונה. מצא את הגודל x בכל סרטוט.

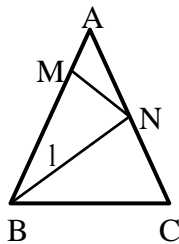


- 7 הגובה לשוק המשולש שווה השוקיים ABC , ($AB = AC$), יוצר זווית בת 24° עם הבסיס BC . מצא את זוויות המשולש ABC .

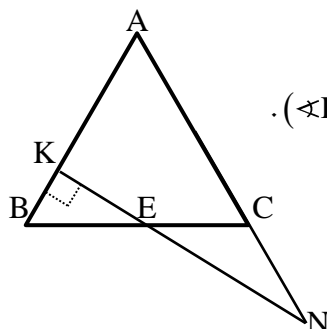
- 8 חשב את זוויות המשולשים בכל אחד מהמקרים הבאים:
 א. במשולש שווה שוקיים, זווית הבסיס גדולה פי ארבעה מזווית הראש. מצא את זוויות המשולש.
 ב. במשולש שווה שוקיים, זווית הבסיס גדולה ב- 12° מזווית הראש. מצא את זוויות המשולש.



- 9 באיור שלפניך נתון: $AD = AE$, $AB = AC$, $\angle A = 40^\circ$.
 א. חשב את הזוויות: $\angle B$, $\angle C$, $\angle D$, $\angle E$.
 ב. הוכח: $DE \parallel BC$.



- 10 באיור שלפניך נתון: $AB = AC$. מעבירים את הקטעים BN ו- MN כך שמתקיים: $BM = BN = BC$. נתון בנוסף: $\angle A = 32^\circ$. חשב את זוויות: $\angle B_1$, $\angle ANM$.



- 11 משולש ABC הוא שווה שוקיים ($AB = AC$). בנקודה K כלשהי על AB מעלים אנך ל- AB ($\angle K = 90^\circ$). אנך זה חותך את BC בנקודה E ואת המשך AC בנקודה N . מתקיים: $CE = CN$. חשב את זוויות המשולש ABC .

תשובות סופיות:

- (1) א. $\alpha = 60^\circ$ ב. $\alpha = 20^\circ$ ג. $\alpha = 35^\circ$ ד. $\alpha = 20^\circ$
 ה. $\alpha = 10^\circ, \beta = 58^\circ$ ו. $\alpha = 37\frac{2}{3}^\circ, \beta = 30\frac{1}{3}^\circ$
- (2) $\sphericalangle A_1 = 42^\circ, \sphericalangle D_1 = 98^\circ$
- (3) $\sphericalangle A = 78^\circ, \sphericalangle B = 48^\circ, \sphericalangle C = 54^\circ$
- (4) $\alpha = 64^\circ, \beta = 46^\circ$
- (5) $20^\circ, 40^\circ, 120^\circ$
- (6) א. $x = 50^\circ$ ב. $x = 22^\circ$
- (7) $\sphericalangle A = 48^\circ, \sphericalangle B = \sphericalangle C = 66^\circ$
- (8) א. $20^\circ, 80^\circ, 80^\circ$ ב. $52^\circ, 64^\circ, 64^\circ$
- (9) א. $\sphericalangle B = \sphericalangle C = \sphericalangle D = \sphericalangle E = 70^\circ$ ב. שאלת הוכחה
- (10) א. $\sphericalangle B_1 = 42^\circ, \sphericalangle ANM = 37^\circ$
- (11) $\sphericalangle A = \sphericalangle B = \sphericalangle C = 60^\circ$

משולש שווה שוקיים ושווה צלעות:

סיכום כללי:

משפטים במשולש שווה שוקיים:

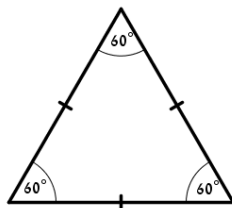
- במשולש שווה שוקיים זוויות הבסיס שוות זו לזו. (משפט הפוך) משולש שבו שתי זוויות שוות הוא משולש שווה שוקיים.
- במשולש שווה שוקיים חוצה זווית הראש, הגובה לבסיס והתיכון לבסיס מתלכדים. (משפט הפוך) משולש שבו חוצה זווית הוא גם גובה או חוצה זווית הוא גם תיכון או גובה הוא גם תיכון הוא משולש שווה שוקיים.

משפטים במשולש שווה צלעות:

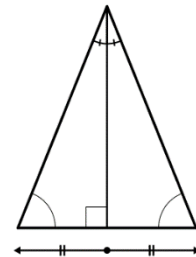
- במשולש שווה צלעות כל הזוויות שוות 60° . (משפט הפוך) משולש שבו כל הזוויות שוות הוא משולש שווה צלעות.

איורים:

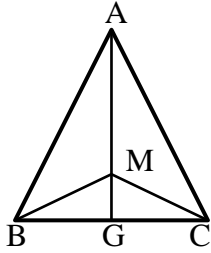
משפט במשולש שווה צלעות



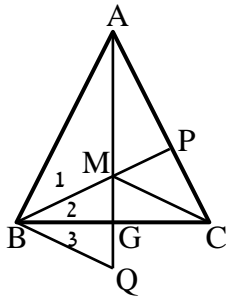
משפט במשולש שווה שוקיים



שאלות:



- 12** המשולש ABC שבציור הוא שווה שוקיים ($AB=AC$).
 AG חוצה את זווית $\sphericalangle A$.
 M היא נקודה כלשהי על AG.
 הוכח כי: $BM = CM$.



- 13** המשולש ABC שבציור הוא שווה שוקיים ($AB=AC$).
 AG ו-BP חוצים את הזוויות $\sphericalangle A$ ו- $\sphericalangle ABC$ בהתאמה.
 הנקודה Q נמצאת על המשך AG.
 נתון: $GM = GQ$.
 הוכח: $\sphericalangle B_1 = \sphericalangle B_3$.

תשובות סופיות:

- 12** שאלת הוכחה.
13 שאלת הוכחה.

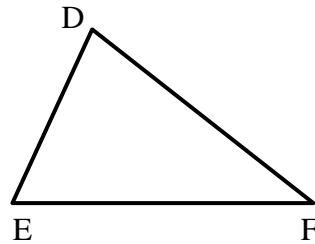
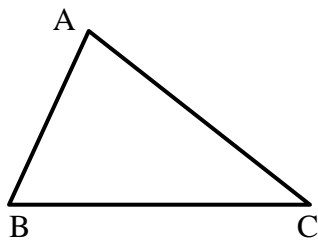
חפיפת משולשים:

סיכום כללי:

הגדרה:

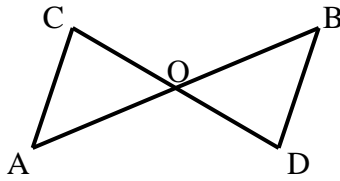
משולשים חופפים הם משולשים ששווים זה לזה בכל צלעותיהם ובכל זוויותיהם בהתאמה.

$$\Delta ABC \cong \Delta DEF \Leftrightarrow \begin{cases} AB = DE, AC = DF, BC = EF \\ \sphericalangle A = \sphericalangle D, \sphericalangle B = \sphericalangle E, \sphericalangle C = \sphericalangle F \end{cases} \text{ סימון מתמטי:}$$

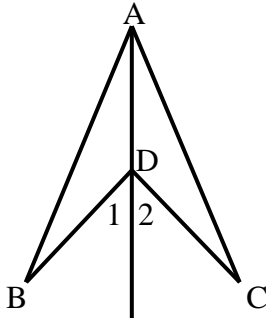


משפטי החפיפה:

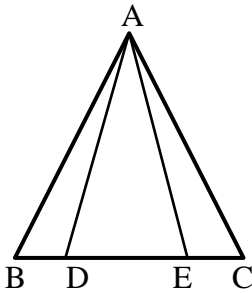
- משפט חפיפה צלע-זווית-צלע (צ.ז.צ):
 אם בין שני משולשים שוות שתי צלעות והזווית שביניהן בהתאמה אז המשולשים חופפים.
- משפט חפיפה זווית-צלע-זווית (ז.צ.ז):
 אם בין שני משולשים שוות שתי זוויות והצלע שביניהן בהתאמה אז המשולשים חופפים.
- משפט חפיפה צלע-צלע-צלע (צ.צ.צ):
 אם בין שני משולשים שוות שלוש צלעות בהתאמה אז המשולשים חופפים.
- משפט חפיפה צלע-צלע-והזווית הגדולה (צ.צ.ז):
 אם בין שני משולשים שוות שתי צלעות והזווית שמול הצלע הגדולה מביניהן בהתאמה אז המשולשים חופפים.

שאלות:**שאלות העוסקות במשפט חפיפה צלע-זווית-צלע:**

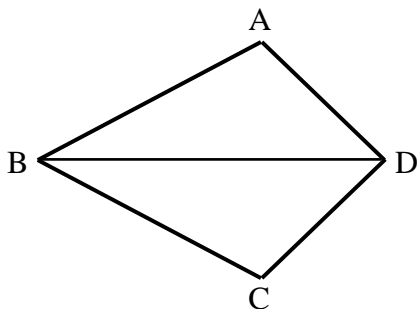
- 14) באיור שלפניך הקטעים AB ו-CD חוצים זה את זה בנקודה O.
 הוכח: $\triangle ACO \cong \triangle BDO$.



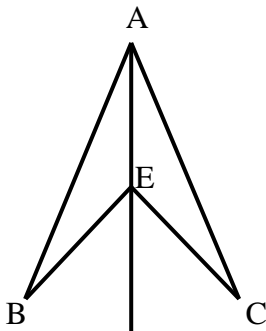
- 15) באיור שלפניך נתון: $BD = CD$.
 כמו כן: $\angle D_1 = \angle D_2$.
 הוכח: $\triangle ABD \cong \triangle ACD$.



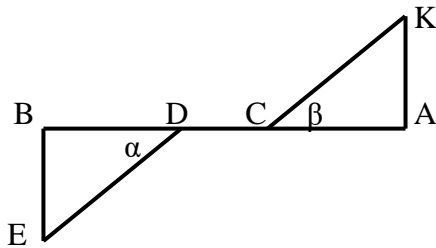
- 16) בסרטוט שלפניך נתון:
 $AB = AC$, $\angle B = \angle C$, $BE = CD$.
 הוכח: $\triangle ABD \cong \triangle ACE$.

שאלות העוסקות במשפט חפיפה זווית-צלע-זווית:

- 17) במרובע ABCD נתון כי BD חוצה את זוויות B ו-D.
 הוכח: $\triangle ABD \cong \triangle CBD$.



- 18) בסרטוט שלפניך נתון:
 AE חוצה את הזוויות $\angle BAC$ ו- $\angle BEC$.
 הוכח: $\triangle ABE \cong \triangle ACE$.



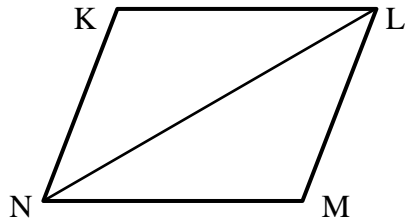
19) בציור שלפניך נתון:

$$AC = BD, \alpha = \beta$$

$$AB \perp BE, AB \perp AK$$

הוכח: $\triangle AKC \cong \triangle BED$

שאלות העוסקות במשפט חפיפה צלע-צלע-צלע:

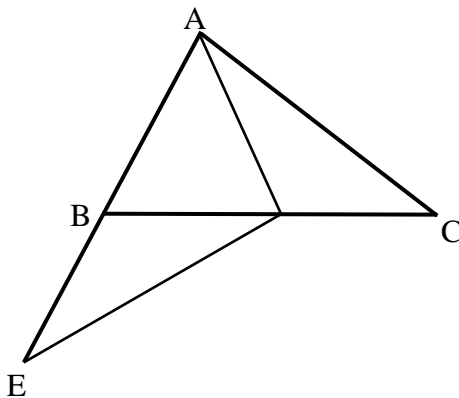


20) באיור שלפניך נתון:

$$KL = MN, KN = LM$$

הוכח: $\triangle KLN \cong \triangle MLN$

שאלות העוסקות במשפט חפיפה צלע-צלע-זווית שמול הצלע הגדולה:

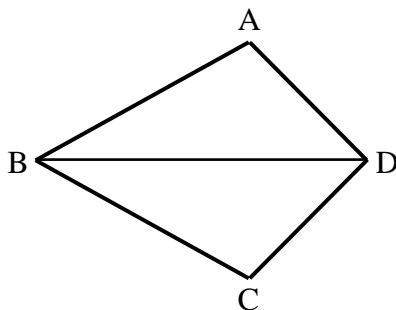


21) בציור שלפניך נתון:

$$AC = DE, AB = BE = AD$$

הוכח כי הנקודה D היא אמצע BC.

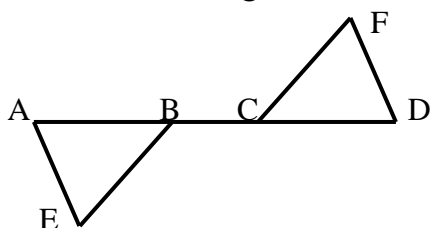
שאלות העוסקות בשלושת משפטי החפיפה יחדיו:



22) במרובע ABCD נתון:

$$AB = BC, AD = CD$$

הוכח: $\angle A = \angle C$

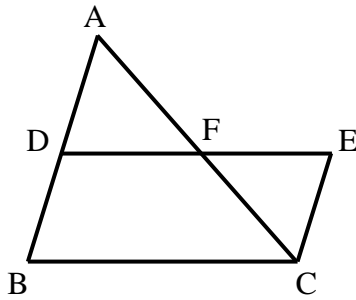


23) הקטע AD הוא קו ישר.

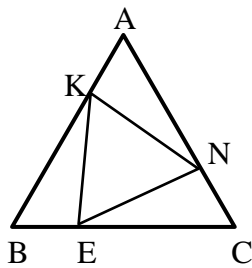
$$AE = DF, AC = BD$$

$$\angle A = \angle D$$

הוכח כי הקטעים BE ו-FC שווים.

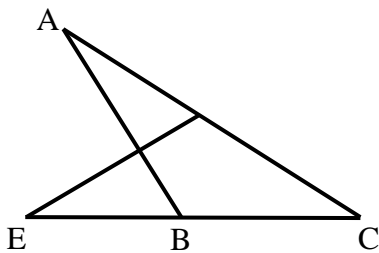


- (24)** באיור שלפניך נתון:
 הנקודה F היא אמצע הקטע AC.
 מתקיים: $\angle BAC = \angle ACE$.
 הקטעים BD ו-CE שווים.
 הוכח את הטענות הבאות:
 א. F היא אמצע הקטע DE.
 ב. D היא אמצע הקטע AB.

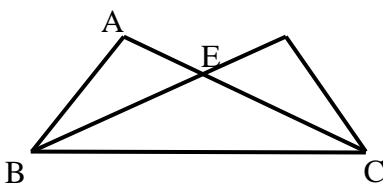


- (25)** המשולש ABC הוא שווה צלעות.
 נתון: $AK = BE = CN$.
 הוכח כי $\triangle KEN$ הוא גם משולש שווה צלעות.

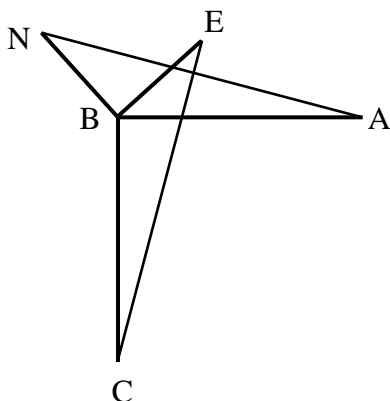
שאלות העוסקות במשולשים המכסים חלקית זה את זה:



- (26)** בציור שלפניך נתון: $AC = CE$, $DC = BC$.
 הוכח:
 א. $\triangle CDE \cong \triangle CBA$.
 ב. $\angle ADE = \angle ABE$.



- (27)** באיור שלפניך נתון:
 $\angle DBC = \angle ACB$, $\angle ABC = \angle DCB$.
 הוכח: $AB = CD$.



- (28)** בציור שלפניך נתון:
 $AB = BC$, $BE = BN$
 $AB \perp BC$, $BE \perp BN$
 הוכח: $AN = CE$.

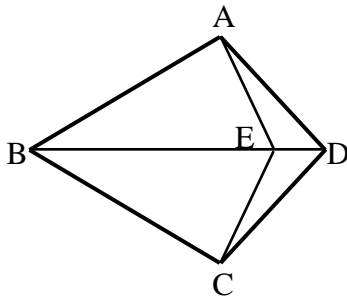
שאלות העוסקות בשתי חפיפות:

(29) בסרטוט שלפניך נתון כי BD הוא קו ישר.

מתקיים: $AD = CD$, $AB = BC$.

הנקודה E נמצאת על BD .

הוכח כי: $AE = CE$.



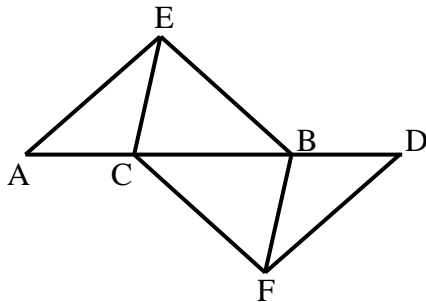
(30) בציור שלפניך נתון כי AD הוא קו ישר. מתקיים:

$\angle AEC = \angle DFB$, $\angle A = \angle D$

וכן $AE = DF$. הוכח:

א. $CE = BF$

ב. $BE = CF$

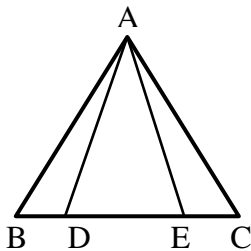


שאלות העוסקות בחפיפות עם משולש שווה שוקיים:

(31) נתון משולש שווה שוקיים $\triangle ABC$, $(AB = AC)$.

מתקיים: $BD = CE$.

הוכח: $AD = AE$.



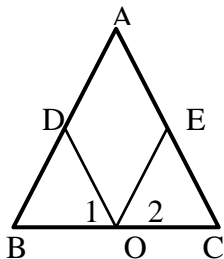
(32) בסרטוט שלפניך נתון משולש

שווה שוקיים $\triangle ABC$, $(AB = AC)$.

הנקודה O היא אמצע BC .

מתקיים: $\angle O_1 = \angle O_2$.

הוכח: $AD = AE$.

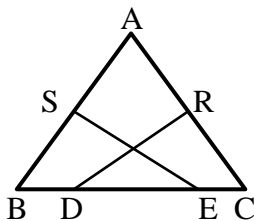


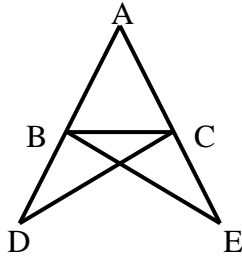
(33) במשולש שווה שוקיים $\triangle ABC$, $(AB = AC)$

הנקודות S ו- R הן אמצעי השוקיים.

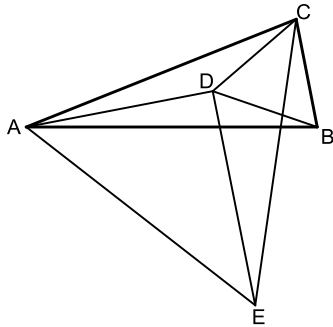
ידוע כי $BD = CE$.

הוכח כי: $SE = RD$.





34 נתון משולש ABC . הקטעים AD ו- AE ישרים ונתון בנוסף כי: $DC = BE$, $BD = CE$. הוכח: $AB = AC$.



35 המשולש ABC הוא שווה שוקיים ($AB = AC$). על השוק AC ועל הבסיס BC בונים משולשים שווים צלעות ACE ו- BCD . מחברים את הנקודה D עם הקדקודים A ו- E .
 א. הוכח: $\triangle ABD \cong \triangle ACD$.
 ב. ידוע גם כי: $DE \parallel BC$.
 הוכח: $\angle ADE = 90^\circ$.

תשובות סופיות:

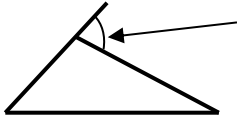
- 14 שאלת הוכחה.
- 15 שאלת הוכחה.
- 16 שאלת הוכחה.
- 17 שאלת הוכחה.
- 18 שאלת הוכחה.
- 19 שאלת הוכחה.
- 20 שאלת הוכחה.
- 21 שאלת הוכחה.
- 22 שאלת הוכחה.
- 23 שאלת הוכחה.
- 24 שאלת הוכחה.
- 25 שאלת הוכחה.
- 26 שאלת הוכחה.
- 27 שאלת הוכחה.
- 28 שאלת הוכחה.
- 29 שאלת הוכחה.
- 30 שאלת הוכחה.
- 31 שאלת הוכחה.
- 32 שאלת הוכחה.
- 33 שאלת הוכחה.
- 34 שאלת הוכחה.
- 35 שאלת הוכחה.

זווית חיצונית במשולש:

סיכום כללי:

הגדרה:

זווית חיצונית למשולש היא זווית הכלואה בין צלע במשולש להמשך צלע הסמוכה לה.



משפט:

זווית חיצונית למשולש שווה לסכום שתי הזוויות הפנימיות שאינן צמודות לה.

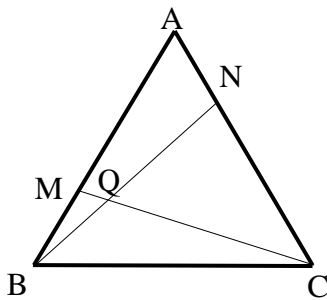
שאלות:

36 הוכח את המשפט: "זווית חיצונית למשולש שווה לסכום שתי הזוויות הפנימיות שאינן צמודות לה.

37 המשולש ABC שבציור הוא משולש שווה צלעות.

נתון: $AN = BM$.

הוכח: $\angle NQC = 60^\circ$.



תשובות סופיות:

36 שאלת הוכחה.

37 שאלת הוכחה.

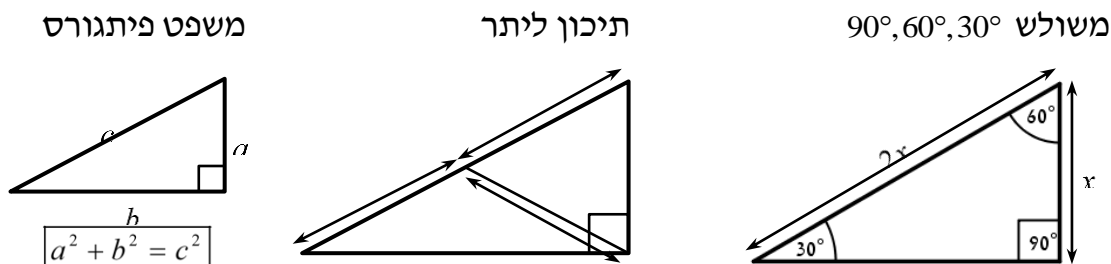
משולש ישר זווית:

סיכום כללי:

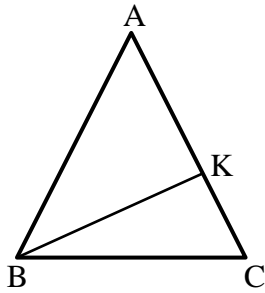
משפטים במשולש ישר זווית:

- סכום הזוויות החדות במשולש ישר זווית הוא 90° .
- במשולש שזוויותיו 90° , 60° , 30° , הניצב שמול הזווית של ה- 30° שווה למחצית היתר. (משפט הפוך ל-2) אם במשולש ישר זווית אחד הניצבים שווה למחצית היתר, אז הזווית שמול ניצב זה היא בת 30° .
- במשולש ישר זווית התיכון ליתר שווה למחצית היתר. (משפט הפוך ל-4) אם במשולש תיכון שווה למחצית הצלע אותה הוא חוצה, אז המשולש ישר זווית (כאשר הזווית ממנה יוצא התיכון היא הזווית הישרה).
- משפט פיתגורס: במשולש ישר זווית סכום ריבועי הניצבים שווה לריבוע היתר. כלומר: $(\text{יתר})^2 = (\text{ניצב})^2 + (\text{ניצב})^2$.
- (משפט הפוך למשפט פיתגורס) אם במשולש סכום ריבועי שתי צלעות שווה לריבוע הצלע השלישית, אז המשולש ישר זווית.

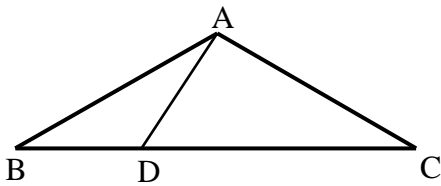
איורים:



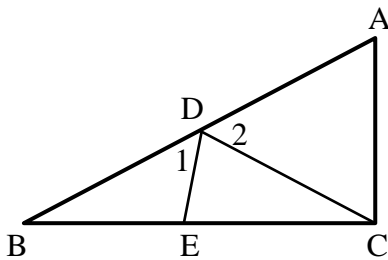
שאלות:



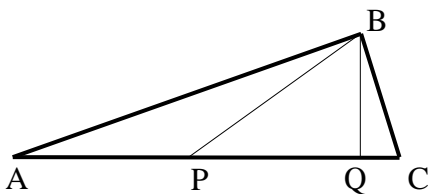
- 38** באיור שלפניך נתון משולש שווה שוקיים ABC ($AB = AC$).
 זווית הבסיס: $\angle C = 75^\circ$
 וכן: 16 ס"מ $AC =$. מעבירים גובה BK לשוק AC .
 מצא את אורך הגובה BK .



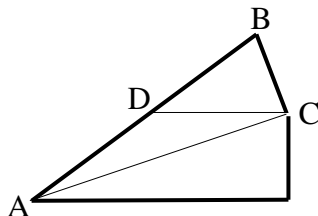
- 39** המשולש ABC שבציור הוא משולש שווה שוקיים ($AB = AC$).
 נתון: $\angle ABD = 30^\circ$, $\angle DAC = 90^\circ$,
 18 ס"מ $BC =$.
 חשב את אורכו של הקטע BD .



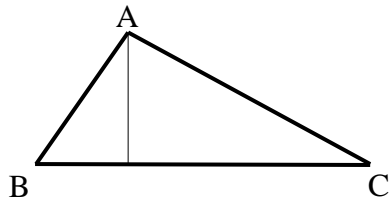
- 40** המשולש $\triangle ABC$ הוא ישר זווית ($\angle C = 90^\circ$).
 מעבירים תיכון CD ליתר AB במשולש.
 הנקודה E נמצאת על BC כך ש- $CD = CE$.
 ידוע כי: $\angle CED = 80^\circ$.
 מצא את הזוויות: $\angle D_1$, $\angle D_2$.



- 41** המשולש ABC שבציור הוא משולש ישר זווית ($\angle ABC = 90^\circ$).
 BQ הוא הגובה ליתר AC ו- BP הוא התיכון ליתר AC .
 נתון: $BQ = \frac{1}{2} BP$.
 חשב את גודלה של הזווית C .



- 42** המשולש BCD שבציור הוא משולש שווה שוקיים ($BD = DC$).
 AC חוצה את הזווית $\angle BAE$.
 נתון: $DC \parallel AE$.
 חשב את גודלה של הזווית $\angle ACB$.



- (43)** AD הוא גובה במשולש ABC.
 נתון: $AB = 15$ ס"מ, $AC = 20$ ס"מ,
 $BC = 25$ ס"מ.
- א. מצא את אורכו של AD ואת שטח המשולש ABC.
- ב. האם המשולש ABC ישר זווית? נמק.

תשובות סופיות:

- (38)** 8 ס"מ.
- (39)** 6 ס"מ.
- (40)** $\angle D_1 = 60^\circ$, $\angle D_2 = 40^\circ$
- (41)** 75°
- (42)** 90°
- (43)** א. $AD = 12$ ס"מ, $S_{ABC} = 150$ סמ"ר.
 ב. כן.

קטע אמצעים במשולש:

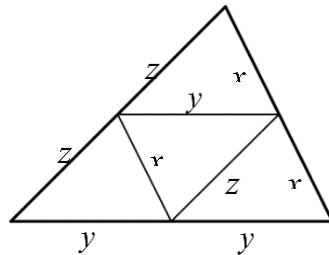
סיכום כללי:

הגדרה:

קטע המחבר אמצעי שתי צלעות במשולש נקרא קטע אמצעים במשולש.

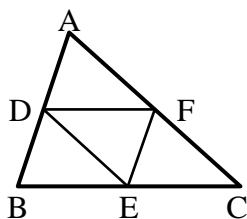
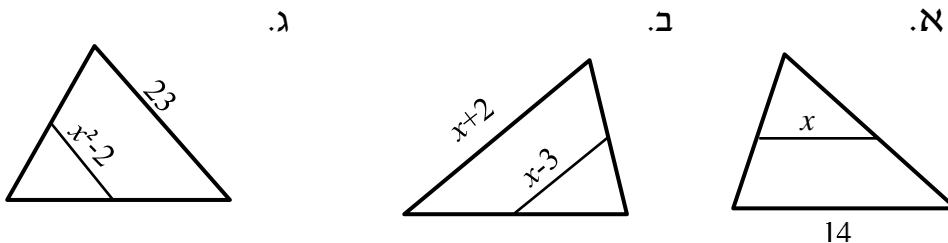
- קטע אמצעים במשולש מקביל לצלע השלישית ושווה למחציתה.
- (משפט הפוך 1): קטע היוצא מאמצע צלע במשולש ומקביל לצלע השלישית חוצה את הצלע השנייה (כלומר הוא קטע אמצעים במשולש).
- (משפט הפוך 2): קטע המחבר שתי צלעות במשולש, מקביל לצלע השלישית ושווה למחציתה הוא קטע אמצעים במשולש.

איור – קטע אמצעים במשולש:

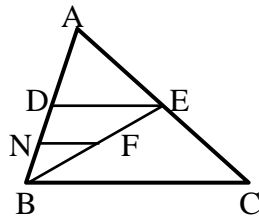


שאלות:

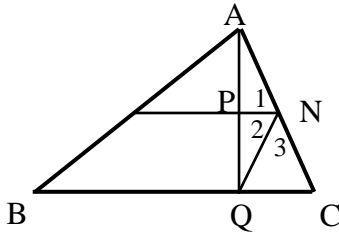
44) לפינך משולשים עם קטע אמצעים בתוכם. מצא את x בכל אחד מהמקרים:



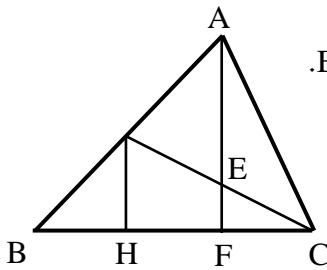
45) הנקודות D, E ו-F הם נקודות האמצע במשולש $\triangle ABC$. נתון: $DE = 9$ ס"מ, $EF = 12$ ס"מ, $DF = 10$ ס"מ. חשב את היקף המשולש $\triangle ABC$.



- 46) הקטע DE הוא קטע אמצעים במשולש $\triangle ABC$.
 הקטע FN הוא קטע אמצעים במשולש $\triangle BDE$.
 נתון: 3 ס"מ $= NF$. מצא את אורך הצלע BC.



- 47) הקטע MN הוא קטע אמצעים במשולש $\triangle ABC$.
 AQ הוא גובה לצלע BC.
 הוכח: $\sphericalangle N_1 = \sphericalangle N_2$.



- 48) AF הוא גובה לצלע BC ו-GC הוא תיכון לצלע AB במשולש $\triangle ABC$.
 א. הוכח: $HF = BH$.
 ב. נתון בנוסף כי הגובה AF חוצה את התיכון GC ושגודלו של AF הוא 12 ס"מ. חשב את אורך הקטע EF.

תשובות סופיות:

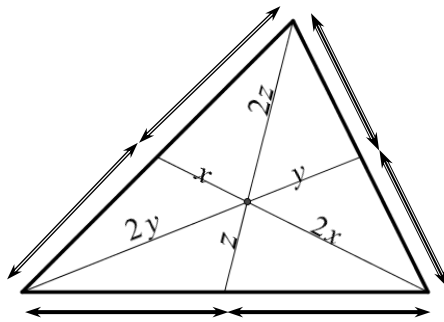
- 44) א. $x = 7$ ב. $x = 8$ ג. $x = \sqrt{13.5}$
- 45) 62 ס"מ.
- 46) 12 ס"מ.
- 47) שאלת הוכחה.
- 48) א. שאלת הוכחה. ב. 3 ס"מ.

מפגש תיכונים במשולש:

סיכום כללי:

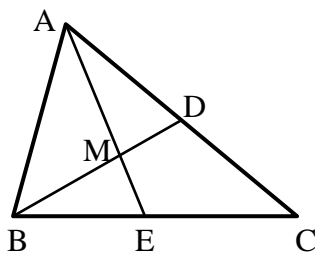
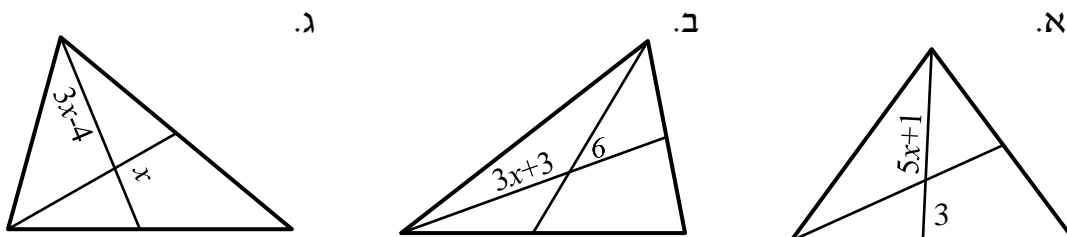
- שלושת התיכונים במשולש נפגשים בנקודה אחת המחלקת כל תיכון ביחס של 2:1 כך שהחלק הקצר קרוב לצלע.
- אם נקודה מחלקת תיכון (אחד) במשולש ביחס של 2:1 כך שהחלק הקצר קרוב לצלע, נקודה זו היא מפגש התיכונים במשולש.
- נקודת מפגש התיכונים במשולש נקראת גם מרכז הכובד של המשולש.

איור – מפגש תיכונים במשולש:



שאלות:

49) הקטעים שבמשולשים הם תיכונים. מצא את x בכל אחד מהמקרים הבאים:

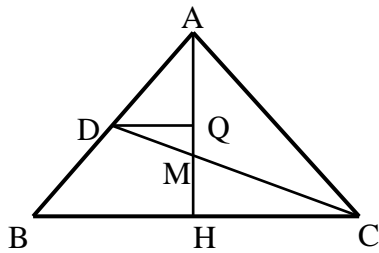


50) הקטעים AE ו-BD הם תיכונים במשולש $\triangle ABC$

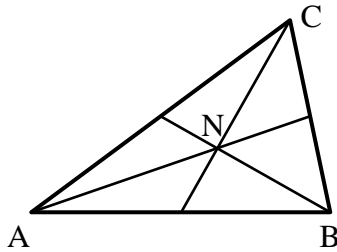
אשר נחתכים בנקודה M.

נתון: $AD = AM$ וכן: $AC = 30$ ס"מ.

חשב את AE.



- (51)** המשולש $\triangle ABC$ שבציור הוא מש"ש ($AB = AC$) שבו AH הוא הגובה לבסיס BC .
 CD , התיכון לשוק AB ,
 יוצר זווית של 30° עם הבסיס BC .
 נתון: $BC = 12\sqrt{3}$ ס"מ, $DQ \parallel BC$.
 חשב את אורך הקטע MQ .



- (52)** במשולש $\triangle ABC$ נחתכים התיכונים בנקודה N .
 נתון: $\angle CNB = 90^\circ$.
 הוכח: $BC = AN$.

תשובות סופיות:

- (49)** א. $x = 1$ ב. $x = 3$ ג. $x = 4$
(50) 22.5 ס"מ.
(51) 3 ס"מ.
(52) שאלת הוכחה.

מכינה במתמטיקה להנדסת מכונות

פרק 19 - גיאומטריה אוקלידית - מרובעים

תוכן העניינים

277	1. מרובע כללי
279	2. המקבילית
284	3. המלבן
287	4. המעוין
290	5. הריבוע
292	6. הטרפז
298	7. הדלתון
300	8. סיכום משפחת המרובעים

מרובע כללי:

סיכום כללי:

הגדרה: מרובע הוא מצולע בעל 4 צלעות.

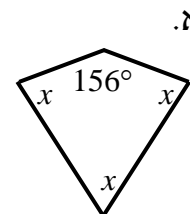
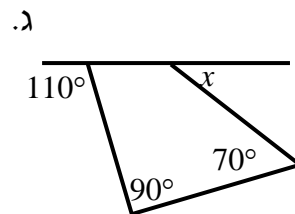
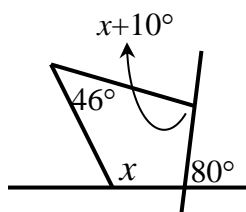
משפט: סכום זוויות במרובע הוא 360° .

שאלות:

1) בסרטוטים שלפניך מופיעים מרובעים שונים.

חלק מהזוויות מסומנות ב- x .

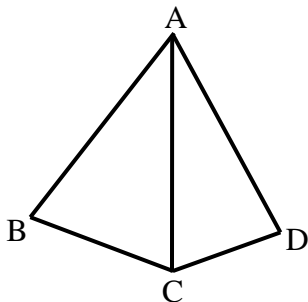
מצא את x ואת הזוויות של כל מרובע.



2) מצא את זוויות המרובע בכל אחד מהמקרים הבאים:

כל זווית במרובע (פרט לראשונה) גדולה ב- 10° מהזווית הקודמת לה.

זוויות המרובע מתייחסות זו לזו כמו: 1: 2: 3: 4.

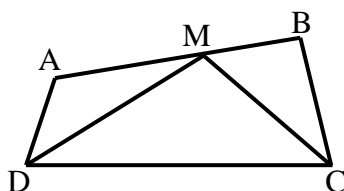


3) המשולשים ABC ו-ACD שבציור הם משולשים

שווי שוקיים ($AB = AC = AD$).

נתון: $\angle BAD = 80^\circ$.

חשב את גודלה של הזווית BCD.



4) בסרטוט שלפניך נתון מרובע ABCD.

CM חוצה את זווית C ו-DM חוצה את זווית D.

ידוע כי: $CM = DM$, $\angle A = 130^\circ$, $\angle DMC = 110^\circ$.

מצא את שאר זוויות המרובע ABCD.


תשובות סופיות:

- (1) א. $x = 68^\circ$ ב. $x = 50^\circ$ ג. $x = 102^\circ$
- (2) א. $75^\circ, 85^\circ, 95^\circ, 105^\circ$ ב. $36^\circ, 72^\circ, 108^\circ, 144^\circ$
- (3) 140°
- (4) $\sphericalangle B = 90^\circ, \sphericalangle C = \sphericalangle D = 70^\circ$

המקבילית:

סיכום כללי:

הגדרה: מקבילית היא מרובע שבו שני זוגות של צלעות נגדיות מקבילות.



- במקבילית כל שתי צלעות נגדיות שוות זו לזו.
- במקבילית כל שתי זוויות נגדיות שוות.
- במקבילית סכום כל שתי זוויות סמוכות הוא 180° .
- במקבילית האלכסונים חוצים זה את זה.
- היקף מקבילית = סכום הצלעות, שטח מקבילית = צלע · גובה לצלע.

כדי להוכיח כי מרובע הוא מקבילית נשתמש באחת הדרכים הבאות:

- מרובע שבו כל זוג צלעות נגדיות מקבילות הוא מקבילית.
- מרובע שבו כל זוג צלעות נגדיות שוות הוא מקבילית.
- מרובע שבו זוג צלעות שוות ומקבילות הוא מקבילית.
- מרובע שבו כל זוג זוויות נגדיות שוות הוא מקבילית.
- מרובע שאלכסוניו חוצים זה את זה הוא מקבילית.

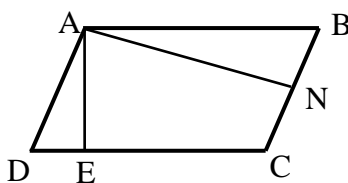
שאלות:

5 נתונה מקבילית ABCD.

בכל אחד מהסעיפים הבאים הזוויות מיוצגות ע"י תבניות מספר שונות. מצא את זוויות המקבילית בכל מקרה.

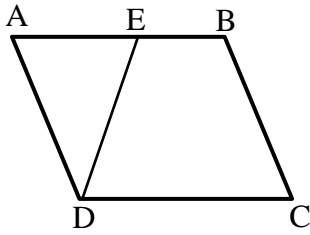


- א. $\sphericalangle A = x$, $\sphericalangle B = x - 70^\circ$
- ב. $\sphericalangle B = 3x - 130^\circ$, $\sphericalangle D = x + 10^\circ$
- ג. $\sphericalangle A = x + 20^\circ$, $\sphericalangle C = 100^\circ - x$

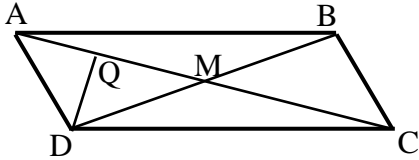


6 המרובע ABCD הוא מקבילית

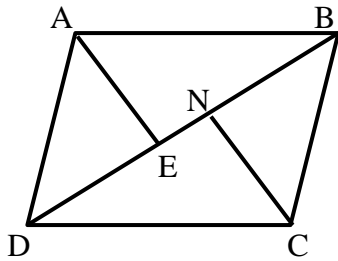
- ובו: $AE \perp CD$, $AN \perp BC$.
- הוכח כי: $\sphericalangle DAE = \sphericalangle BAN$.



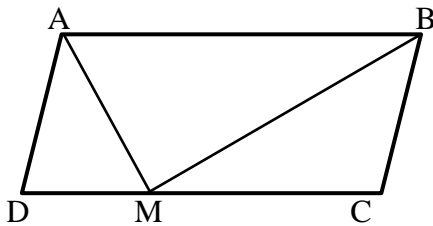
- 7) במקבילית ABCD הנקודה E נמצאת על הצלע AB כך שמתקיים: $DE = BC$. הוכח כי: $\angle EAD = \angle EDC$.



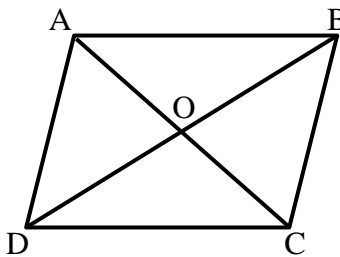
- 8) נתונה מקבילית ABCD שאלכסוניה נפגשים בנקודה M. נתון: $AC = 20$ ס"מ, $BC = \frac{1}{2}BD$ ו- $DQ \perp AC$. חשב את אורך הקטע AQ.



- 9) הוכח כי במקבילית הקדקודים הנגדיים נמצאים במרחקים שווים מאלכסון המקבילית שאינו עובר דרכם, כלומר הוכח: $AE = CN$.

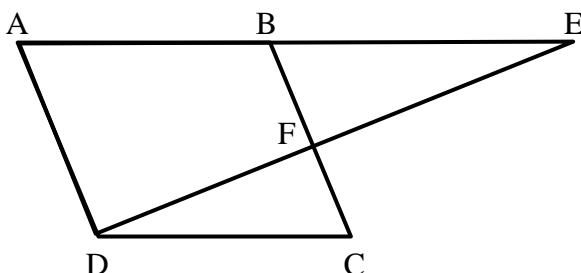


- 10) במקבילית ABCD הקטעים AM ו-BM הם חוצי הזוויות של A ו-B בהתאמה אשר נפגשים בנקודה M שעל הצלע DC. א. הוכח כי: $AB = 2BC$. ב. הוכח כי המשולש AMB הוא ישר זווית.



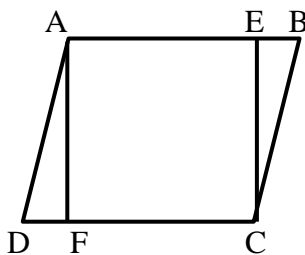
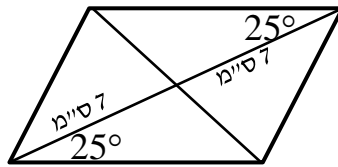
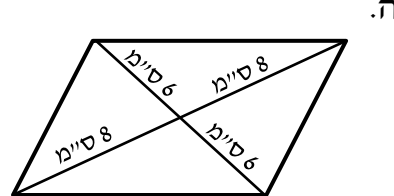
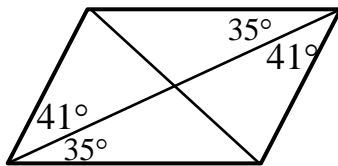
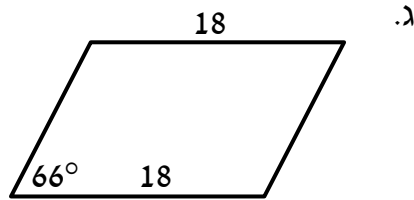
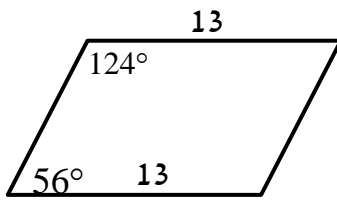
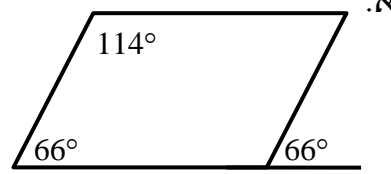
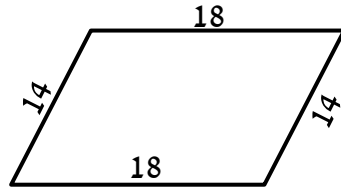
- 11) המרובע ABCD הוא מקבילית. O – פגישת האלכסונים. נתון: $AO = x + 1$, $BO = x + 8$, $DO = 3x - 10$. מצא את אורכי האלכסונים AC ו-BD.

- 12) נתונה מקבילית ABCD ובה: $\angle ADC = 120^\circ$, $\angle BEF = \frac{1}{2} \angle EAD$.

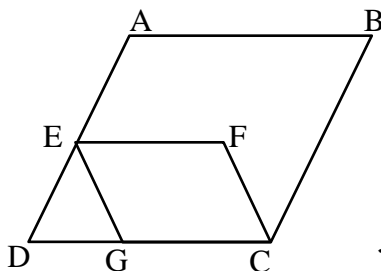


הוכח כי: $BC \perp ED$.

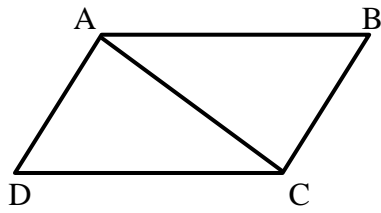
13) בסרטוטים שלפניך מופיעים מרובעים שונים.
 קבע אלו מהם הם מקביליות וציין מדוע.



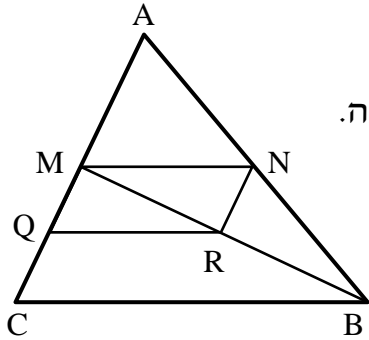
14) במקבילית ABCD הנקודות E ו-F נמצאות על הצלעות AB ו-CD בהתאמה.
 נתון: $\angle DAF = \angle BCE$.
 הוכח כי המרובע AECF הוא מקבילית.



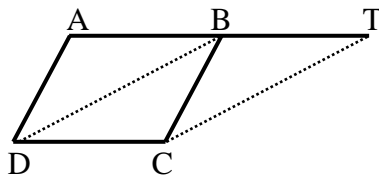
15) במקבילית ABCD הנקודות E ו-G נמצאות על הצלעות AD ו-BC בהתאמה כך שהמשולש DEG הוא שווה צלעות. הנקודה F נמצאת בתוך המקבילית כך שהקטע EF מקביל לצלע AB.
 א. הוכח: $\angle DAB = \angle EGC$.
 ב. נתון: $\angle GCF = \angle ABC$. הוכח כי EFCG מקבילית.



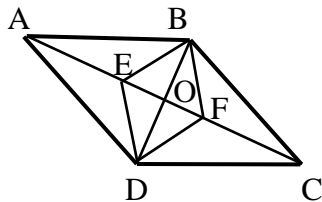
- 16) במרובע ABCD נתון כי הצלעות AB ו-DC שוות.
כמו כן: $AD \perp AC$, $BC \perp AC$.
הוכח כי המרובע ABCD הוא מקבילית.



- 17) נתון משולש ABC ובו הקטע MN הוא קטע אמצעים.
הנקודות Q ו-R הן אמצעי הקטעים MC ו-BM בהתאמה.
א. הוכח כי המרובע MNRQ הוא מקבילית.
ב. ידוע כי הקטע AN שווה לקטע QR.
איזה סוג משולש הוא $\triangle AMB$? נמק.



- 18) את הצלע AB במקבילית ABCD האריכו
כאורכה עד לנקודה T.
הוכח: BTCD מקבילית.
הערה: בסרטון השאלה מוצגת ללא הסרטוט הנתון.



- 19) הנקודה O היא מפגש אלכסוני המקבילית ABCD. E ו-F הן נקודות על האלכסון AC.
נתון: $AE = FC$.
הוכח כי EBFD הוא מקבילית.

תשובות סופיות:

- 5 א. $125^\circ, 55^\circ$ ב. $100^\circ, 80^\circ$ ג. $120^\circ, 60^\circ$.
 6 שאלת הוכחה.
 7 שאלת הוכחה.
 8 5 ס"מ.
 9 שאלת הוכחה.
 10 שאלת הוכחה.
 11 $BD = 34$ ס"מ, $AC = 20$ ס"מ.
 12 שאלת הוכחה.
 13 מקביליות: א', ב', ד', ה', ו', ח' אינן מקביליות: ג', ז'.
 14 שאלת הוכחה.
 15 שאלת הוכחה.
 16 שאלת הוכחה.
 17 שאלת הוכחה.
 18 שאלת הוכחה.
 19 שאלת הוכחה.

המלבן:

סיכום כללי:

הגדרה: מלבן הוא מרובע שכל זוויותיו ישרות.
(מסקנה: מלבן הוא סוג של מקבילית).

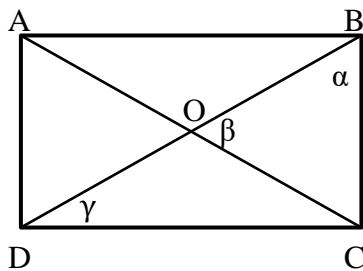
תכונות המלבן (בנוסף לתכונות המקבילית):

- ארבע זוויות המלבן שוות והן זוויות ישרות.
- האלכסונים במלבן שווים זה לזה
- היקף מלבן סכום הצלעות, שטח מלבן צלע גובה לצלע.

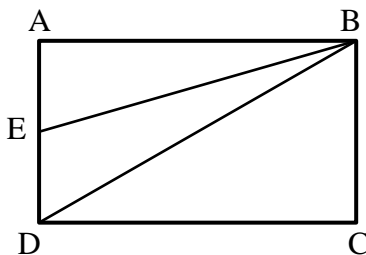
כדי להוכיח כי מרובע הוא מלבן נשתמש באחת הדרכים הבאות:

- מרובע שבו שלוש זוויות ישרות הוא מלבן.
- מקבילית שבה זווית ישרה היא מלבן.
- מקבילית שבה האלכסונים שווים היא מלבן.

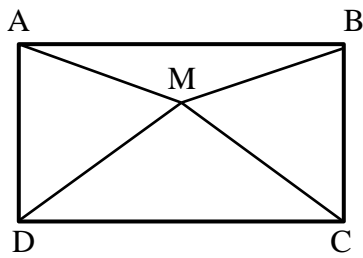
שאלות:



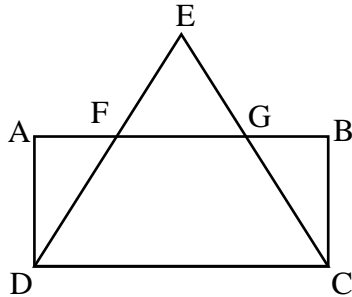
- 20** המרובע ABCD הוא מלבן.
מעבירים את האלכסונים AC ו-BD.
חשב את הזוויות α , β ו- γ במקרים הבאים:
- א. β קטנה ב- 15° מ- α .
 - ב. $\alpha = 2\gamma$.
 - ג. $\gamma = 28^\circ$.



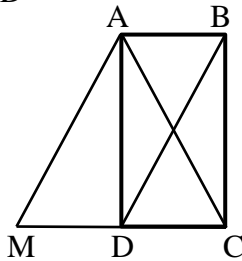
- 21** במלבן ABCD הנקודה E נמצאת על הצלע AD.
נתון: $\angle AEB = 70^\circ$, $BD = 2BC$.
חשב את גודלה של הזווית EBD.



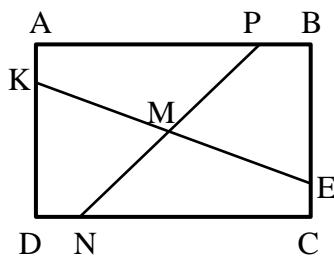
(22) נתון מלבן ABCD שבו $DM = MC$.
הוכח: $\angle MAB = \angle MBA$.



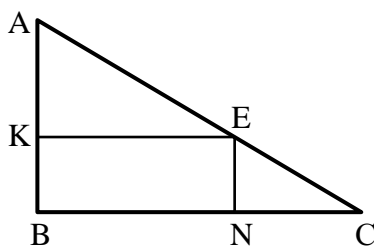
(23) המרובע ABCD הוא מלבן.
המשכי הקטעים DF ו-CG נפגשים
בנקודה E.
נתון: $EF = EG$.
הוכח: $FD = GC$.



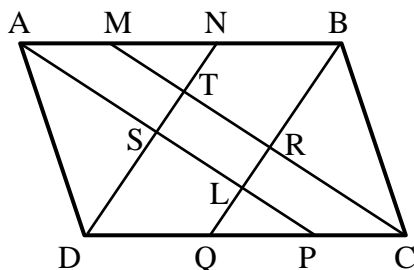
(24) המרובע ABCD הוא מלבן.
המרובע ABDM הוא מקבילית.
הוכח כי המשולש ACM הוא שווה שוקיים.



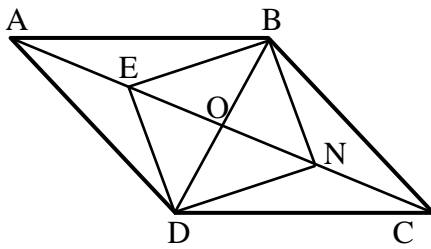
(25) מרובע ABCD הוא מלבן.
נתון: $AP = CN$, $AK = CE$.
הוכח: $KM = EM$, $PM = NM$.



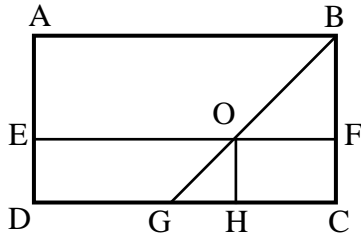
(26) $\triangle ABC$ הוא משולש ישר זווית ($\angle B = 90^\circ$).
המרובע KENB חסום במשולש זה.
נתון כי: $\angle AEK = \angle C$, $\angle NEC = \angle A$.
הוכח כי המרובע KENB הוא מלבן.



(27) נתונה מקבילית ABCD
ובה DN , CM , BQ , AP
הם חוצי הזוויות $\angle A$, $\angle B$, $\angle C$, ו- $\angle D$
בהתאמה.
הוכח: $TRLS$ מלבן.



- (28)** מרובע ABCD הוא מקבילית.
 מעבירים את האלכסונים AC ו-BD
 אשר נחתכים בנקודה O.
 נתון: $2BD = AC$.
 E – אמצע AO. N – אמצע CO.
 הוכח כי המרובע BNDE הוא מלבן.



- (29)** במלבן ABCD נתון:
 $OH \perp DC$, $\angle ABO = \angle BOF$.
 הוכח: EOHD הוא מלבן.

תשובות סופיות:

ב. $\alpha = \beta = 60^\circ$, $\gamma = 30^\circ$

(20) א. $\alpha = 55^\circ$, $\beta = 70^\circ$, $\gamma = 35^\circ$

ג. $\alpha = 62^\circ$, $\beta = 56^\circ$

(21) 10°

(22) שאלת הוכחה.

(23) שאלת הוכחה.

(24) שאלת הוכחה.

(25) שאלת הוכחה.

(26) שאלת הוכחה.

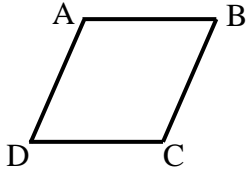
(27) שאלת הוכחה.

(28) שאלת הוכחה.

(29) שאלת הוכחה.

המעוין:

סיכום כללי:



הגדרה: מעוין הוא מרובע שכל צלעותיו שוות.
(מסקנה: מעוין הוא סוג של מקבילית).

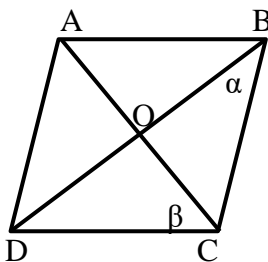
תכונות המעוין (בנוסף לתכונות המקבילית):

- במעוין כל הצלעות שוות.
- במעוין האלכסונים מאונכים זה לזה.
- במעוין האלכסונים הם חוצי זוויות.
- היקף מעוין = צלע $\cdot 4$, שטח מעוין = צלע \cdot גובה לצלע = $(\text{אלכסון} \cdot \text{אלכסון}) / 2$.

כדי להוכיח כי מרובע הוא מעוין נשתמש באחת הדרכים הבאות:

- מרובע שבו כל הצלעות שוות הוא מעוין.
- מקבילית שבה שתי צלעות סמוכות שוות היא מעוין.
- מקבילית שבה האלכסונים מאונכים זה לזה היא מעוין.
- מקבילית שבה אלכסון חוצה זווית היא מעוין (מספיק אחד).

שאלות:



30 המרובע ABCD הוא מעוין.

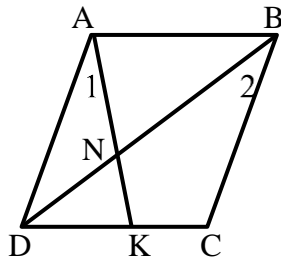
חשב בכל אחד מהמקרים הבאים את α ו- β .

א. $\angle A = 138^\circ$.

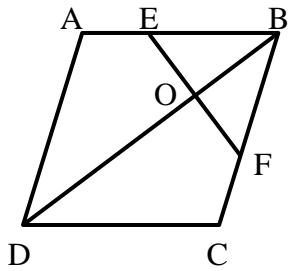
ב. $\beta = 3.5\alpha$.

ג. $\beta = \alpha + 20^\circ$.

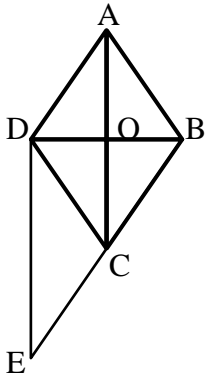
ד. $\angle B = \beta$.



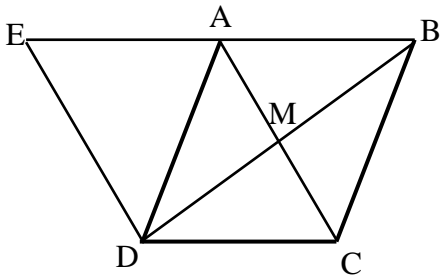
- 31** המרובע ABCD הוא מעוין.
מעבירים את האלכסון BD ואת הקטע AK
אשר נחתכים בנקודה N.
ידוע כי: $\angle A_1 = \angle B_2$.
א. הוכח כי המשולש ADN הוא שווה שוקיים.
ב. הוכח כי: $\angle AND = \angle C$.



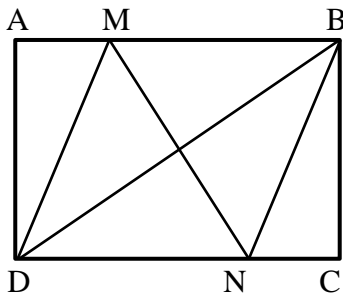
- 32** מעוין ABCD הנקודות E ו-F
נמצאות על הצלעות AB ו-BC בהתאמה.
נתון: $\angle DCB = 120^\circ$, $EF \perp BD$.
הוכח כי משולש EBF הוא שווה צלעות.



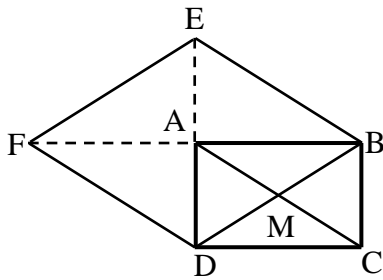
- 33** נתון מעוין ABCD.
הנקודה E נמצאת על המשך הצלע BC.
נתון: $\angle CDE = \angle BCA$.
הוכח כי המשולש BDE הוא ישר זווית.



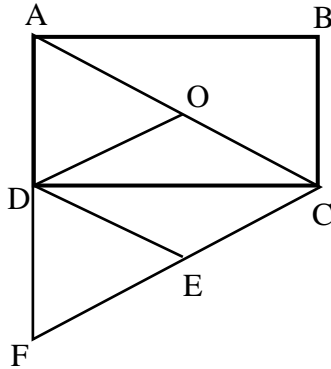
- 34** נתון מעוין ABCD שאלכסונו נפגשים בנקודה M.
האריכו את הצלע AB עד לנקודה E
כך שמתקיים: $DE \perp BD$.
הוכח: $AD = AE$.



- 35** במלבן ABCD מעבירים את האלכסון BD.
הנקודות M ו-N נמצאות על הצלעות AB
ו-DC בהתאמה.
נתון: $AM = CN$ ו- $DM = DN$.
הוכח כי הקטע MN חוצה את
הזוויות BMD ו-BND.



36 נתון מלבן ABCD שאלכסונו נפגשים בנקודה M. האריכו את הצלע AB כאורכה עד לנקודה F ואת הצלע AD כאורכה עד לנקודה E כמתואר בשרטוט. הוכח: המרובע EBDF הוא מעוין.



37 ABCD הוא מלבן שאלכסונו נחתכים בנקודה O. הנקודה F נמצאת על המשך הצלע AD כך שמתקיים: $AD = DF$. נתון: $FE = CE$. הוכח כי DOCE הוא מעוין.

תשובות סופיות:

ב. $\alpha = 20^\circ, \beta = 70^\circ$

ד. $\alpha = 30^\circ, \beta = 60^\circ$

30 א. $\alpha = 21^\circ, \beta = 69^\circ$

ג. $\alpha = 35^\circ, \beta = 55^\circ$

31 שאלת הוכחה.

32 שאלת הוכחה.

33 שאלת הוכחה.

34 שאלת הוכחה.

35 שאלת הוכחה.

36 שאלת הוכחה.

37 שאלת הוכחה.

הריבוע:

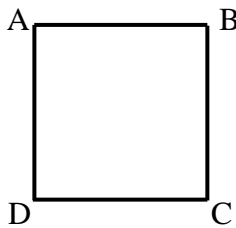
סיכום כללי:

הגדרה: ריבוע הוא מרובע שכל צלעותיו שוות וכל זוויותיו שוות.

(מסקנה: ריבוע הוא סוג של מקבילית, סוג של מלבן וסוג של מעוין).

מכאן, שבנוסף לתכונות שבהגדרת הריבוע מתקיים כי אלכסונו הריבוע חוצים זה את זה, שווים זה לזה, מאונכים זה לזה וחוצים את זוויות הריבוע.

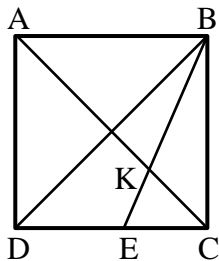
היקף ריבוע = צלע $\cdot 4$, שטח ריבוע = $(צלע)^2 = \frac{(אלכסון)^2}{2}$



כדי להוכיח כי מרובע הוא ריבוע נשתמש באחת הדרכים הבאות:

- מלבן שבו האלכסונים מאונכים הוא ריבוע.
- מלבן שבו אלכסון חוצה זווית הוא ריבוע.
- מלבן שבו שתי צלעות סמוכות שוות הוא ריבוע.
- מעוין שבו האלכסונים שווים הוא ריבוע.
- מעוין שבו זווית ישרה הוא ריבוע.

שאלות:

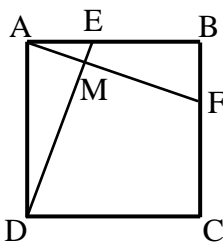


38 המרובע ABCD הוא ריבוע.

מעבירים את האלכסונים AC ו-BD.

BE חוצה זווית DBC וחותך את AC בנקודה K.

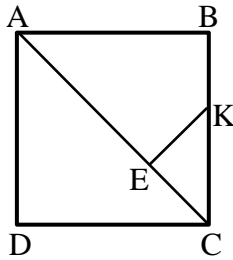
הוכח: $CE = CK$.



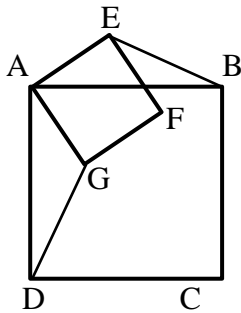
39 בריבוע ABCD מעבירים את הקטעים AF ו-DE.

נתון כי $AE = BF$.

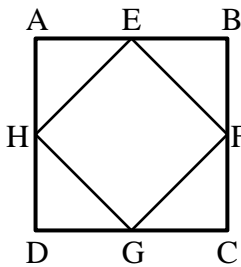
הוכח: $DE \perp AF$.



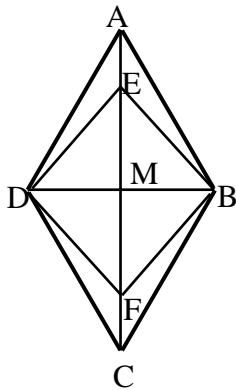
- 40** המרובע ABCD הוא ריבוע.
מעבירים את האלכסון AC.
מהנקודה E שעל האלכסון מעבירים את הקטע KE אשר מאונך לאלכסון.
נתון: $AE = AB$.
הוכח כי: $CE = KE = BK$.



- 41** המרובעים ABCD ו-AEFG הם ריבועים.
הוכח: $BE = DG$.



- 42** הנקודות E, F, G, H הן אמצעי צלעות הריבוע ABCD.
הוכח כי EFGH הוא ריבוע.



- 43** נתון מעוין ABCD שאלכסונו נפגשים בנקודה M.
נתון: $\angle EBA = 15^\circ$, $MB = \frac{1}{2} AB$, $AE = FC$.
הוכח: המרובע EBFM הוא ריבוע.

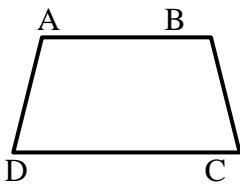
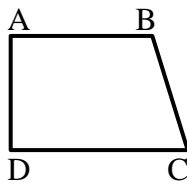
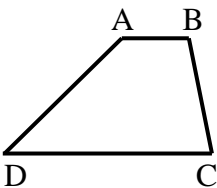
תשובות סופיות:

- 38** שאלת הוכחה.
39 שאלת הוכחה.
40 שאלת הוכחה.
41 שאלת הוכחה.
42 שאלת הוכחה.
43 שאלת הוכחה.

הטרפז:

סיכום כללי:

הגדרה: טרפז הוא מרובע שבו זוג אחד בלבד של צלעות נגדיות מקבילות.
 היקף טרפז = סכום הצלעות, שטח טרפז = $\frac{(\text{גובה} \cdot \text{סכום הבסיסים})}{2}$.

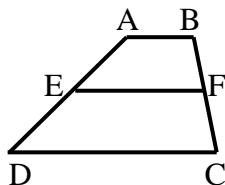
טרפז שווה שוקיים	טרפז ישר זווית	טרפז כללי	סוג הטרפז
			איור מתאים

משפטים הנוגעים לטרפז שווה שוקיים:

- בטרפז שווה שוקיים הזוויות שליד אותו בסיס שוות זו לזו.
- (משפט הפוך) טרפז שבו הזוויות שליד אותו בסיס שוות זו לזו הוא טרפז שווה שוקיים.
- בטרפז שווה שוקיים האלכסונים שווים זה לזה.
- (משפט הפוך) טרפז שבו האלכסונים שווים זה לזה הוא טרפז שווה שוקיים.

קטע אמצעים בטרפז:

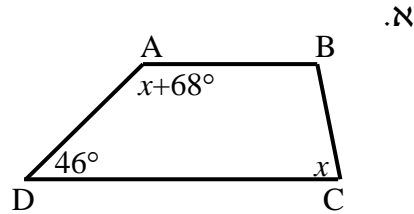
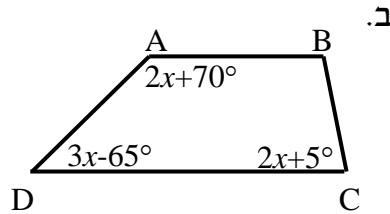
הגדרה: קטע אמצעים בטרפז הוא קטע המחבר את אמצעי השוקיים בטרפז.



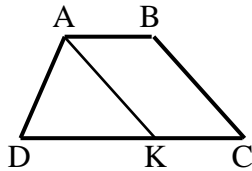
- קטע אמצעים בטרפז מקביל לבסיסים ושווה למחצית סכומם.
- (משפט הפוך) קטע היוצא מאמצע שוק אחת בטרפז ומקביל לבסיסים, חוצה את השוק השנייה (כלומר הוא קטע אמצעים בטרפז).

שאלות:

44 בסרטוטים שלפניך נתונים טרפזים כלליים $(AB \parallel CD)$. מצא את x ואת זוויות הטרפז בכל מקרה.

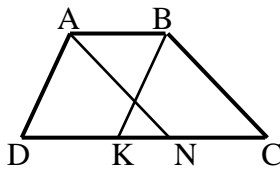


45 המרובע ABCD הוא טרפז $(AB \parallel CD)$.



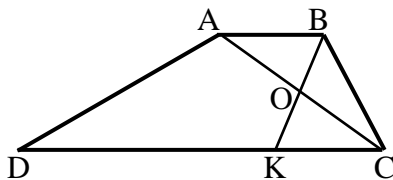
מעבירים את הקטע AK.
נתון: $AK = DK$, $AK \parallel BC$,
 $DC = 14$ ס"מ, $AB = 6$ ס"מ.
חשב את אורך השוק BC.

46 המרובע ABCD הוא טרפז $(AB \parallel CD)$.



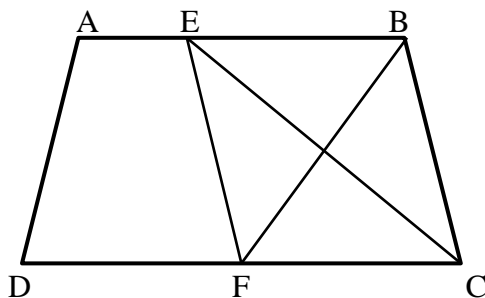
נתון כי: $AN \parallel BC$, $AD \parallel BK$.
הוכח כי: $DK = CN$.

47 המרובע ABCD הוא טרפז $(AB \parallel CD)$.

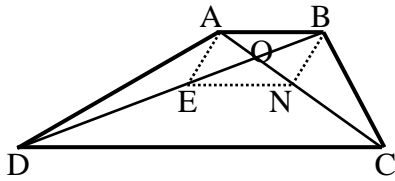


מעבירים את האלכסון AC ואת הקטע BK אשר חוצים זה את זה בנקודה O.
ידוע כי: $\angle C = 60^\circ$, $\angle D = 30^\circ$.
א. חשב את אורך DC, הבסיס הגדול,
אם ידוע כי: $AB = 7$ ס"מ, $BC = 9$ ס"מ.
ב. הוכח כי אם $AB = BC$ אז: $DC = 3AB$.

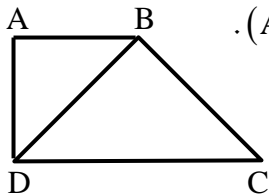
48 נתון טרפז ABCD $(AB \parallel CD)$ ובו



הקטעים CE ו-BF חוצים את זוויות הקדקודים C ו-B בהתאמה. הוכח:
א. $BF \perp CE$.
ב. המשולש EBC הוא שווה שוקיים.
ג. המרובע EBCF הוא מעויך.

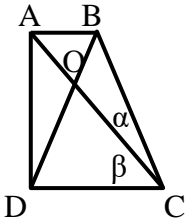


- (49) מרובע ABCD הוא טרפז ($AB \parallel CD$).
 O - היא נקודת פגישת האלכסונים.
 נתון: $BO = EO$, $AO = NO$.
 הוכח כי המרובע ENCD הוא טרפז.



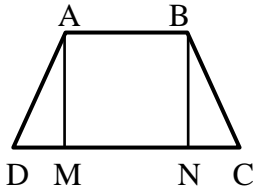
- (50) המרובע ABCD הוא טרפז ישר זווית ($AB \parallel CD$, $\angle D = 90^\circ$).

האלכסון BD חוצה את זווית D
 ונתון בנוסף כי: $BD = BC$ וכי: $AD = 15$ ס"מ.
 חשב את אורכי בסיסי הטרפז.



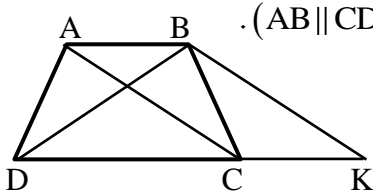
- (51) המרובע ABCD הוא טרפז ישר זווית

($AB \parallel CD$, $AD \perp DC$).
 נתון כי: $BD = BC$, $\beta = 2\alpha$ ו- $\angle DOC = 80^\circ$.
 חשב את זוויות הטרפז.



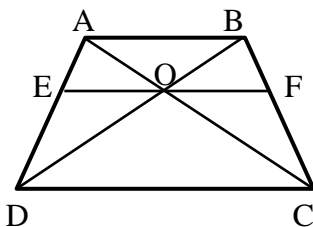
- (52) מרובע ABCD הוא טרפז שווה

שוקיים ($AB \parallel CD$, $AD = BC$).
 נתון כי: $AM \perp DC$, $BN \perp DC$.
 הוכח כי: $DM = CN$.



- (53) מרובע ABCD הוא טרפז שווה שוקיים ($AB \parallel CD$, $AD = BC$).

דרך הנקודה B מעבירים מקביל ל-AC הפוגש את המשך הבסיס DC בנקודה K.
 הוכח כי משולש BDK הוא שווה שוקיים.

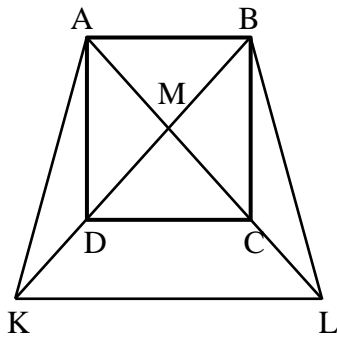


- (54) מרובע ABCD הוא טרפז שווה שוקיים ($AB \parallel CD$, $AD = BC$).

O היא פגישת האלכסונים.
 נתון כי: $EF \parallel DC$ כאשר EF עובר דרך O.
 הוכח:

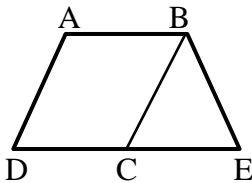
- א. $\angle BOF = \angle COF$.
 ב. $EO = FO$.

55 נתון ריבוע ABCD.



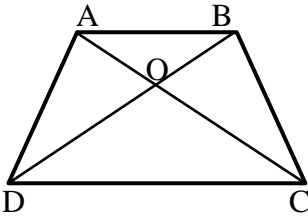
- הנקודה M היא מפגש האלכסונים AC ו-BD.
ממשיכים את האלכסונים ויוצרים את הטרפז
השווה שוקיים ABLK.
ידוע גם כי DC הוא קטע אמצעים משולש KML.
א. קבע אלו מהטענות הבאות ניתן להוכיח:
i. המשולש KML הוא ישר זווית ושווה שוקיים.
ii. הקטעים BK ו-BL מאונכים זה לזה.
iii. המרובע DCLK הוא טרפז שווה שוקיים.
iv. הקטעים DK ו-AD שווים זה לזה.
ב. הוכח כי: $3DK = AL$.
ג. נתון כי $AD = 8\sqrt{2}$ ס"מ.
חשב את היקף הטרפז ABLK.

56 המרובע ABCD הוא מקבילית.



- הקטע DE הוא קו ישר ונתון כי: $\angle A + \angle E = 180^\circ$.
הוכח כי המרובע ABED הוא טרפז שווה שוקיים.

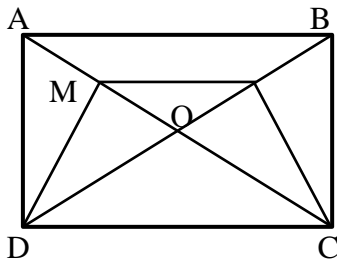
57 במרובע ABCD הנקודה O היא פגישת האלכסונים.



נתון כי: $CO = DO$, $AO = BO$.

הוכח כי מרובע ABCD הוא טרפז שווה שוקיים.

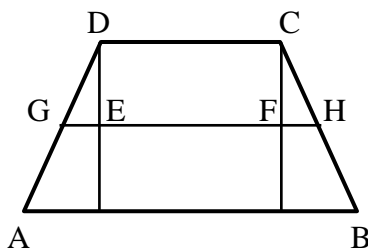
58 נתון מלבן ABCD שאלכסונו נפגשים בנקודה O.



נתון: $MN \parallel DC$.

הוכח: טרפז DMNC שווה שוקיים.

59 בטרפז ABCD ($AB \parallel CD$) הורדו מקצות

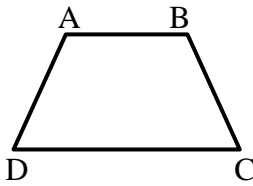


הבסיס הקטן אנכים לבסיס הגדול.

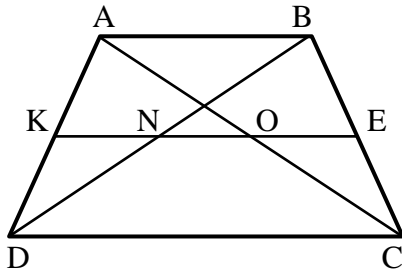
קטע האמצעים GH חותך גבהים אלה בנקודות E ו-F.

נתון: $GE = 3$ ס"מ, $EF = 12$ ס"מ, $FH = 2$ ס"מ.

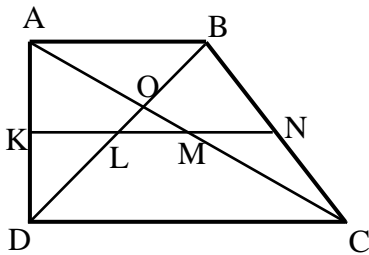
חשב את בסיסי הטרפז.



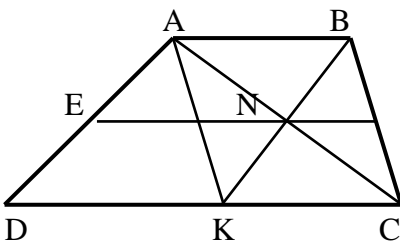
60 סכום כל אורכי הצלעות של טרפז שווה שוקיים הוא 54 ס"מ.
אורך קטע האמצעים הוא 13 ס"מ.
מצא את אורך שוק הטרפז.



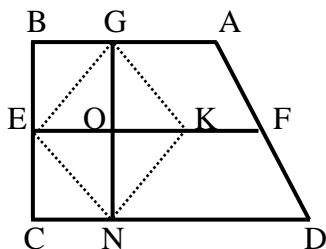
61 המרובע ABCD הוא טרפז ($AB \parallel CD$).
KE הוא קטע אמצעים בטרפז, החותך את אלכסוני הטרפז בנקודות O ו-N.
א. הוכח כי: $KN = EO$.
ב. בטרפז הנ"ל נתון:
 $AB = 14$ ס"מ, $DC = 26$ ס"מ.
חשב את אורכי הקטעים KN, NO ו-EO.
ג. בטרפז הנ"ל נתון: $KE = 13$ ס"מ,
 $NO = 3$ ס"מ. חשב את בסיסי הטרפז.



62 KN הוא קטע אמצעים בטרפז ישר זווית ABCD שאלכסוניו ($AB \parallel CD, AD \perp AB$) נפגשים בנקודה O.
נתון: $AD = 12$ ס"מ, $DC = 2AB$, $\angle ADB = 45^\circ$.
חשב את אורך הקטע LM והוכח כי: $KL = LM = MN$.



63 מרובע ABCD הוא טרפז ($AB \parallel CD$).
EF הוא קטע אמצעים. AC ו-BK נפגשים בנקודה N הנמצאת על EF.
א. הוכח כי מרובע ABCK הוא מקבילית.
ב. נתון: $EF = 13$ ס"מ, $EN = 9$ ס"מ.
חשב את בסיסי הטרפז AB ו-DC ואת הקטע DK.



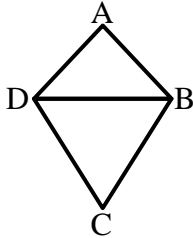
64 המרובע ABCD הוא טרפז ישר זווית ($AB \parallel CD, \angle B = 90^\circ$).
EF קטע אמצעים בטרפז.
G ו-N הן נקודות על AB ו-CD בהתאמה המקיימות: $GN \perp DC$.
בנוסף נתון: $\angle D < 90^\circ, KO = EO$.
הוכח כי מרובע GENK הוא מעוין.

תשובות סופיות:

- (44) א. $x = 66^\circ$; $46^\circ, 134^\circ, 66^\circ, 114^\circ$ ב. $x = 35^\circ$; $40^\circ, 140^\circ, 75^\circ, 105^\circ$
- (45) 8 ס"מ.
- (46) שאלת הוכחה.
- (47) א. 25 ס"מ.
- (48) שאלת הוכחה.
- (49) שאלת הוכחה.
- (50) א. 15 ס"מ, 30 ס"מ.
- (51) $90^\circ, 90^\circ, 60^\circ, 120^\circ$
- (52) שאלת הוכחה.
- (53) שאלת הוכחה.
- (54) שאלת הוכחה.
- (55) א. ניתן להוכיח את טענות: i, iii. ב. שאלת הוכחה.
- ג. $P_{ABLK} = 16\sqrt{5} + 24\sqrt{2} \approx 69.71$ ס"מ
- (56) שאלת הוכחה.
- (57) שאלת הוכחה.
- (58) שאלת הוכחה.
- (59) 22 ס"מ ו-12 ס"מ.
- (60) 14 ס"מ.
- (61) א. שאלת הוכחה. ב. 7 ס"מ = EO = KN, 6 ס"מ = NO
- ג. 10 ס"מ = AB, 16 ס"מ = DC.
- (62) 6 ס"מ.
- (63) 8 ס"מ = AB, 18 ס"מ = DC, 10 ס"מ = DK.
- (64) שאלת הוכחה.

הדלתון:

סיכום כללי:



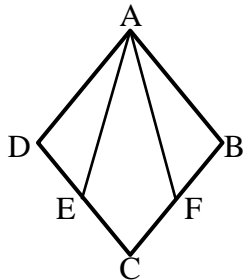
הגדרה:

דלתון הוא מרובע שבו שני זוגות של צלעות סמוכות שוות. (מסקנה: דלתון הוא מרובע שניתן לפרק לשני משולשים שווים שוקיים בעלי בסיס משותף).

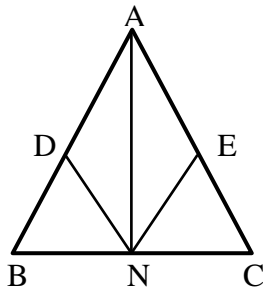
תכונות האלכסונים בדלתון:

- האלכסון הראשי בדלתון חוצה את זוויות הראש, חוצה את האלכסון המשני ומאונך לו.
- האלכסון הראשי אינו בהכרח גדול מהאלכסון המשני.
- היקף דלתון = סכום הצלעות, שטח דלתון = $(\text{אלכסון} \cdot \text{אלכסון}) / 2$.

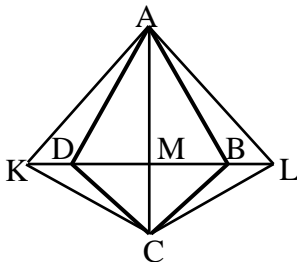
שאלות:



65 נתון מעוין ABCD. הנקודות E ו-F נמצאות על הצלעות DC ב-BC בהתאמה כך שהמרובע AFCE הוא דלתון. הוכח: $\angle DAE = \angle FAB$.



66 במשולש שווה שוקיים ABC ($AB = AC$) מקצים נקודות D ו-E על השוקיים. נתון כי: $AD = AE$. הנקודה N היא אמצע BC. הוכח כי ADNE הוא דלתון.



67 בדלתון ABCD האריכו את האלכסון המשני משני צדיו כמתואר בשרטוט כך שמתקיים: $KD = BL$. הוכח: המרובע ALCK הוא דלתון.

תשובות סופיות:

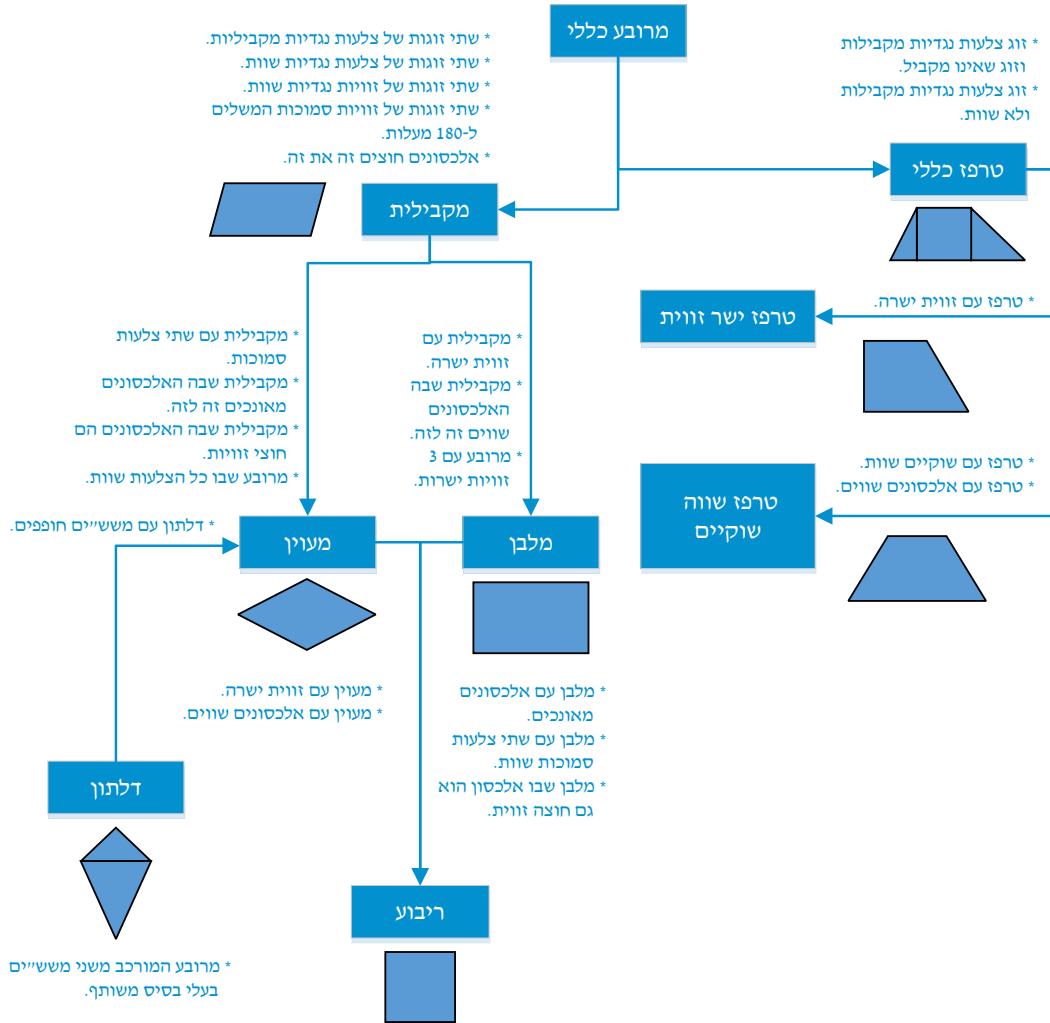
65) שאלת הוכחה.

66) שאלת הוכחה.

67) שאלת הוכחה.

סיכום משפחת המרובעים:

להלן דיאגרמה מסכמת של כל משפחת המרובעים ותכונותיהם:



מכינה במתמטיקה להנדסת מכונות

פרק 20 - גיאומטריה אוקלידית - שטחים והיקפים

תוכן העניינים

301	1. שטחים והיקפים של משולשים
303	2. שטחים והיקפים של מרובעים
304	3. שאלות עם מקבילית
307	4. שאלות עם מלבן
308	5. שאלות עם מעוין
310	6. שאלות עם ריבוע
312	7. שאלות עם טרפז

שטחים והיקפים של משולשים:

סיכום כללי:

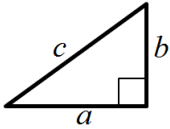
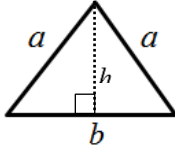
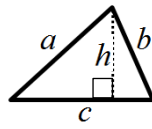
שטח – הגדרה:

גודל של תחום מישורי בהשוואה ליחידת מידה קבועה.
שטח נמדד ביחידות מידה של אורך בריבוע כגון:
מטר ריבועי (m^2), ס"מ ריבועי (סמ"ר cm^2).

היקף – הגדרה:

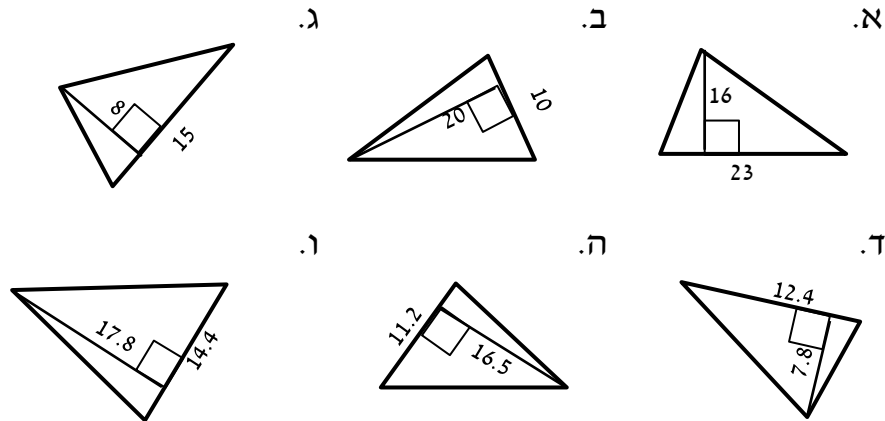
היקף מצולע הוא סכום כל צלעותיו.

משולשים:

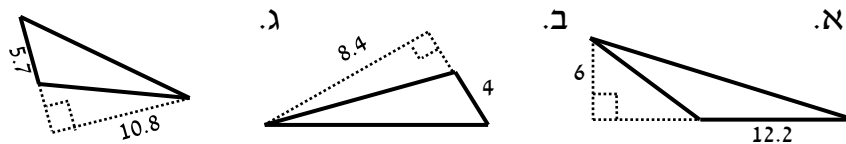
משולש ישר זווית	משולש שווה שוקיים	משולש כללי	סוג
			איור
$S = \frac{a \cdot b}{2}$	$S = \frac{b \cdot h}{2}$	$S = \frac{c \cdot h}{2}$	שטח
$P = a + b + c$	$P = 2a + b$	$P = a + b + c$	היקף

שאלות:

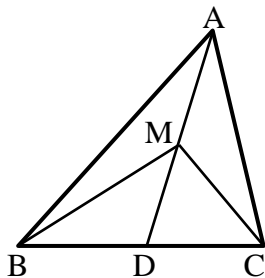
(1) מצא את שטחם של המשולשים הבאים (כל המידות נתונות בס"מ):



(2) מצא את שטחם של המשולשים קהי-הזווית הבאים (כל המידות בס"מ):



(3) הוכח כי אם במשולש ABC, הקטע AD המחבר את הקדקוד A עם הצלע BC יוצר שני משולשים שווים בשטחם אז הוא תיכון ל-BC.



(4) במשולש ABC הקטע AD הוא תיכון לצלע BC. M היא אמצע AD. הוכח כי:

א. הקטעים AD, MC ו-BM מחלקים את המשולש ABC ל-4 משולשים שווים שטח.

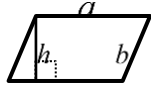



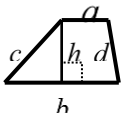
ב. $S_{MBC} = \frac{1}{2} S_{ABC}$.

תשובות סופיות:

- (1) א. 184 סמ"ר ב. 100 סמ"ר ג. 60 סמ"ר ד. 48.36 סמ"ר
 ה. 92.4 סמ"ר ו. 128.16 סמ"ר
- (2) א. 36.6 סמ"ר ב. 16.8 סמ"ר ג. 30.78 סמ"ר
- (3) שאלת הוכחה.
- (4) שאלת הוכחה.

שטחים והיקפים של מרובעים:

סיכום כללי:

סוג	מקבילית	מלבן	מעוין	ריבוע	טרפז
איור					
שטח	$S = a \cdot h$	$S = a \cdot b$	$S = a \cdot h$ $S = \frac{m_1 \cdot m_2}{2}$	$S = a^2$	$S = \frac{(a+b)h}{2}$
היקף	$P = 2(a+b)$	$P = 2(a+b)$	$P = 4a$	$P = 4a$	$P = a+b+c+d$

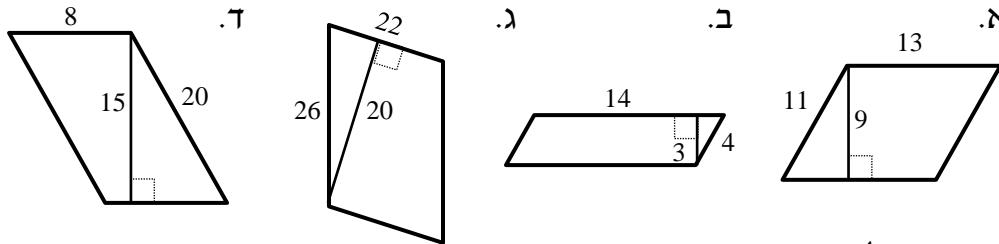
הערות כלליות:

- שטח מקבילית ניתן לחישוב ע"י מכפלת כל צלע בגובה המתאים לה. כך ניתן לקבל את הנוסחה: $S = a \cdot h_a = b \cdot h_b$ כאשר h_a ו- h_b הם הגבהים לצלעות a ו- b בהתאמה.
- ניתן לחשב שטח מעוין ע"י מחצית ממכפלת אלכסונים או ע"י מכפלת צלע בגובה שלה (שכן היא סוג של מקבילית).
- עבור טרפז ישר זווית, שבו $h=c$ נקבל: $S = \frac{(a+b)c}{2}$.
- ניתן לחשב שטח של טרפז ע"י הורדת גבהים, חלוקתו למלבן ושני משולשים, חישוב שטחם בנפרד ואיחודם.

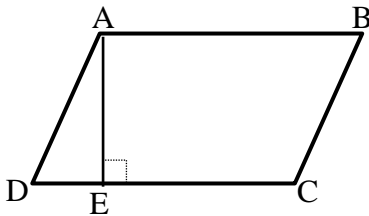
שאלות עם מקבילית:

שאלות:

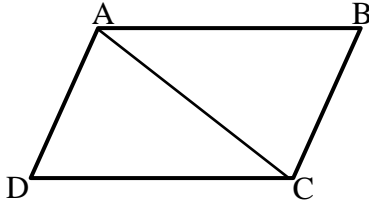
(5) חשב את השטחים וההיקפים של המקבילות הבאות (כל המידות בס"מ):



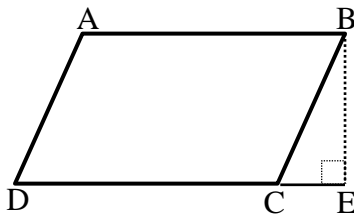
- (6) נתונה מקבילית ABCD. מעבירים גובה AE לצלע CD שאורכו הוא 6 ס"מ. ידוע כי שטח המקבילית הוא 60 סמ"ר.
- א. מצא את אורך הצלע AB.
 ב. ידוע כי היקף המקבילית הוא 36 ס"מ. מצא את אורך הצלע BC.



- (7) נתונה מקבילית ABCD. מעבירים את האלכסון AC שאורכו 25 ס"מ. ידוע כי היקף המשולש ACD הוא 66 ס"מ. חשב את היקף המקבילית.

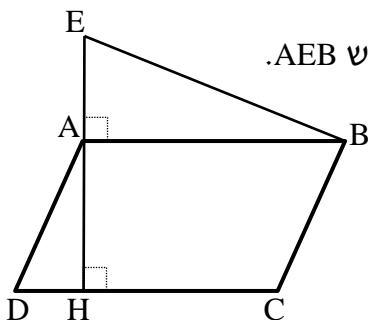


- (8) נתונה מקבילית ABCD. מורידים גובה מהקדקוד B לצלע CD כך שנוצר המשולש BCE. שטח המשולש BCE הוא 24 סמ"ר. ושטח המקבילית ABCD הוא 112 סמ"ר. נתון: $CE = 6$ ס"מ.



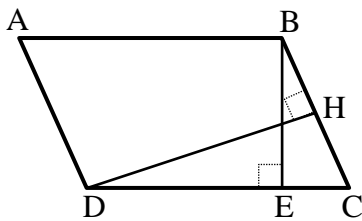
- א. מצא את אורך הגובה BE.
 ב. מצא את אורך הצלע AB של המקבילית.

- (9) נתונה מקבילית ABCD. מעלים אנך מהקדקוד A עד לנקודה E ויוצרים משולש AEB. מורידים גובה AH לצלע CD שאורכו 12 ס"מ. נתון: $AD = 13$ ס"מ, $AE = 8$ ס"מ. שטח כל הצורה AEBCD הוא 256 סמ"ר.



- א. מצא את אורך הצלע AB.
 ב. חשב את היקף המקבילית ABCD.

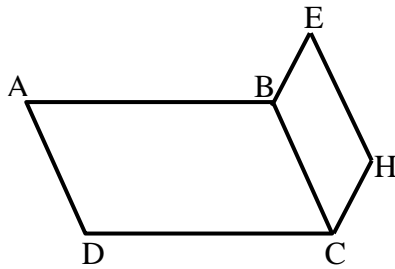
10 במקבילית ABCD מעבירים את הגבהים BE ו-DH לצלעות CD ו-BC בהתאמה.



נתון: $BE = 12$ ס"מ, $BC = 14.4$ ס"מ, $DH = 15$ ס"מ.

- חשב את שטח המקבילית ABCD.
- חשב את אורך הצלע AB.
- חשב את היקף המקבילית.

11 נתונה המקבילית ABCD.

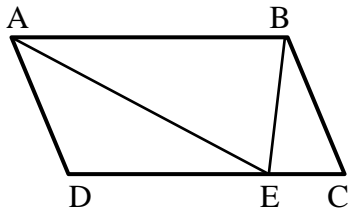


על הצלע BC בונים מקבילית נוספת BCHE שהיקפה הוא 44 ס"מ.

ידוע כי היקף הצורה ABEHCD הוא 94 ס"מ.
נתון: $BC = 15$ ס"מ.

- חשב את אורך הצלע AB.
- חשב את היקף המקבילית ABCD.

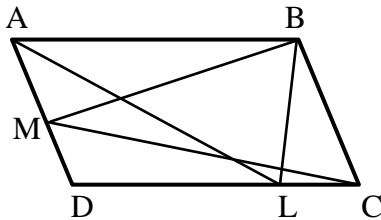
12 המרובע ABCD הוא מקבילית.



הנקודה E נמצאת על DC.

הוכח כי: $S_{AEB} = \frac{1}{2} S_{ABCD}$.

13 המרובע ABCD הוא מקבילית.



הנקודות M ו-L נמצאות על הצלעות AD ו-DC בהתאמה.

הוכח כי: $S_{BMC} = S_{ALB}$.

תשובות סופיות:

- (5) א. 48 ס"מ P , 117 סמ"ר S ב. 36 ס"מ P , 42 סמ"ר S
- ג. 96 ס"מ P , 440 סמ"ר S ד. 56 ס"מ P , 120 סמ"ר S
- (6) א. 10 ס"מ AB ב. 8 ס"מ BC
- (7) 82 ס"מ P
- (8) א. 8 ס"מ BE ב. 14 ס"מ AB
- (9) א. 16 ס"מ AB ב. 58 ס"מ P
- (10) א. 216 סמ"ר S ב. 18 ס"מ AB ג. 64.8 ס"מ P
- (11) א. 25 ס"מ AB ב. 80 ס"מ P
- (12) שאלת הוכחה.
- (13) שאלת הוכחה.

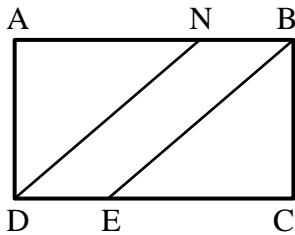
שאלות עם מלבן:

שאלות:

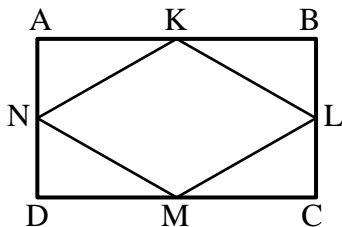
14) במלבן ABCD אורכי הצלעות הם: $AB = 12$ ס"מ, $BC = 8$ ס"מ. מצאו את ההיקף של המלבן.

15) במלבן ABCD אורך הצלע AB הוא 10 ס"מ. היקף המלבן הוא 32 ס"מ. מצאו את שטח המלבן.

16) במלבן ABCD נתון: $DC = 11$ ס"מ, $AD = 9$ ס"מ. מצאו את האורך של האלכסון AC.



17) המרובע ABCD הוא מלבן. הישרים DN ו-BE מקבילים. נתון: $AB = 32$ ס"מ, $DN = 30$ ס"מ ו- $BN = 8$ ס"מ. הוכח כי מרובע NBED הוא מקבילית וחשב את שטחה.



18) הנקודות K, L, M ו-N הן אמצעי הצלעות AB, BC, CD, AD בהתאמה במלבן ABCD. נתון כי היקף המלבן הוא 120 ס"מ וכי שטחו הוא 836 סמ"ר. חשב את שטחו של המרובע KLMN.

תשובות סופיות:

14) 40 ס"מ.

15) 60 סמ"ר.

16) 14.21 ס"מ $\approx \sqrt{202}$.

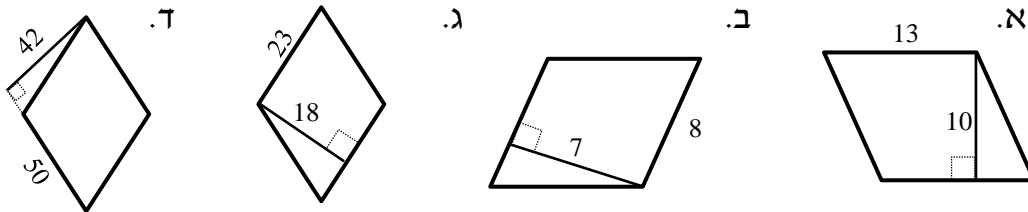
17) 144 סמ"ר.

18) 418 סמ"ר.

שאלות עם מעוין:

שאלות:

19) חשב את השטחים וההיקפים של המעוינים הבאים (כל המידות בס"מ):



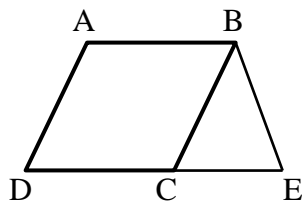
20) במעוין ABCD האלכסונים נפגשים בנקודה O. נתון: $AO = 3$ ס"מ, $BO = 4$ ס"מ. מצא את אורך צלע המעוין.

21) במעוין ABCD האלכסונים נפגשים בנקודה O. נתון: $AB = 12$ ס"מ, $BO = 8$ ס"מ. מצא את AO.

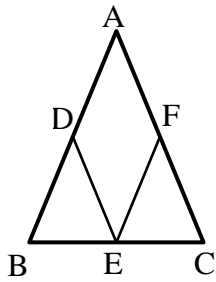
22) במעוין ABCD האלכסון AC שווה באורכו לצלע המעוין. נתון: $AB = 20$ ס"מ.

- א. חשב את אורך האלכסון BD.
- ב. חשב את שטח המעוין.

23) נתון מעוין ABCD. אורך האלכסון הקצר הוא 7 ס"מ ושטח המעוין הוא 35 סמ"ר. חשב את היקף המעוין.

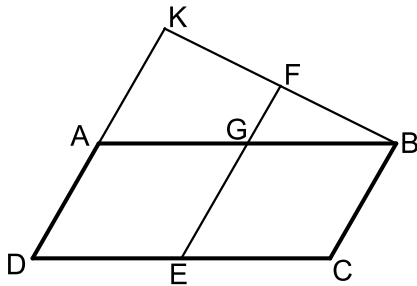


24) נתון מעוין ABCD בעל אורך צלע של 8 ס"מ. מעבירים את הקטע BE השווה באורכו לצלע המעוין כך שנוצר המשולש BCE. ידוע כי: $CE = 6$ ס"מ.
א. איזה סוג משולש הוא המשולש BCE? נמק.
ב. חשב את היקף הצורה ABCE.



- (25)** נתון משולש שווה שוקיים ABC , $(AB = AC)$. מסמנים את אמצעי צלעות המשולש ב-D, E ו-F ומעבירים את הקטעים DE ו-EF כך שהמרובע ADEF הוא מעוין. נתון: $BC = 12$ ס"מ, וכי היקף המשולש ABC הוא 48 ס"מ.
א. מצא את אורך צלע המעוין ADEF.
ב. חשב את היקף המעוין ADEF.

- (26)** המרובע ABCD הוא מקבילית שבה אורך הצלע AB גדולה פי 2 מהצלע AD. ממשיכים את הצלע AD עד לנקודה K ומחברים אותה לקדקוד B. מעבירים את הקטע FE כך ש-F היא אמצע הקטע BK. EF חותך את הצלע AB בנקודה G ומקביל לצלע AD.



- א. הוכח כי המרובע AGED הוא מעוין.
ב. שטח המעוין AGED הוא 20 סמ"ר.
חשב את שטח המרובע DCBK אם ידוע כי A היא אמצע הקטע DK.

תשובות סופיות:

- (19)** א. 52 ס"מ $P =$, 130 סמ"ר $S =$
ב. 32 ס"מ $P =$, 56 סמ"ר $S =$
ג. 92 ס"מ $P =$, 414 סמ"ר $S =$
(20) 5 ס"מ.
(21) 8.94 ס"מ $\approx \sqrt{80}$.
(22) א. $BD = 20\sqrt{3}$ ס"מ.
(23) 24.413 ס"מ.
(24) א. משולש שווה שוקיים, מכיוון ש- $BE=BC$. ב. 38 ס"מ $P =$.
(25) א. 9 ס"מ. ב. 36 ס"מ $P =$.
(26) א. 60 סמ"ר. ב. 60 סמ"ר.

שאלות עם ריבוע:

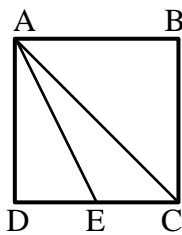
שאלות:

(27) נתון ריבוע ABCD בעל אורך צלע של 6 ס"מ.

- חשב את שטח הריבוע.
- חשב את היקף הריבוע.
- חשב את אורך האלכסון בריבוע.

(28) שטחו של ריבוע ABCD הוא 49 סמ"ר.

- מהו אורך צלע הריבוע?
- מהו אורך האלכסון בריבוע?
- מהו היקף הריבוע?



(29) בריבוע ABCD מעבירים את הקטע AE כך ש-E היא אמצע

- הצלע DC ואת האלכסון AC. שטח הריבוע הוא 40 סמ"ר.
- מצא את אורך צלע הריבוע.
- מצא את אורך אלכסון הריבוע.
- מצא את אורך הקטע AE.

(30) חשב את צלע הריבוע השווה בשטחו לשטח משולש שצלעו 25 ס"מ והגובה לצלע זו הוא 18 ס"מ.

(31) נתונים מלבן וריבוע השווים בשטחם. אורכי צלעות המלבן הם 25 ס"מ ו-9 ס"מ. חשב את היקף הריבוע.

(32) נתונים מלבן וריבוע השווים בהיקפם. שטח הריבוע הוא 36 ס"מ ואורך המלבן גדול ב-8 ס"מ מרוחבו. חשב את שטח המלבן.

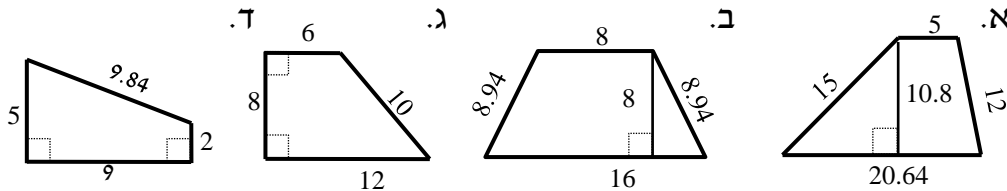
תשובות סופיות:

- | | | |
|--------------|-------------|------------------|
| ג. 8.48 ס"מ. | ב. 24 ס"מ | (27) א. 36 סמ"ר |
| ג. 28 ס"מ. | ב. 9.89 ס"מ | (28) א. 7 ס"מ |
| ג. 7.07 ס"מ. | ב. 8.94 ס"מ | (29) א. 6.32 ס"מ |
| | | (30) 15 ס"מ. |
| | | (31) 60 ס"מ. |
| | | (32) 20 סמ"ר. |

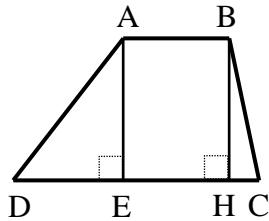
שאלות עם טרפז:

שאלות:

33) חשב את השטחים וההיקפים של הטרפזים הבאים (כל המידות בס"מ):

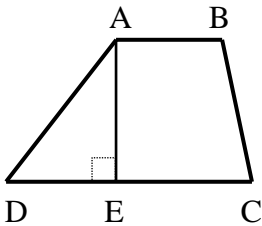


34) נתון טרפז ABCD, $(AB \parallel CD)$.



מורידים את הגבהים AE ו-BH שאורכם 8 ס"מ.
ידוע כי: $DE = 6$ ס"מ, $HC = 2$ ס"מ.
שטח הטרפז הוא 88 סמ"ר.
מצא את אורך בסיס הטרפז AB.

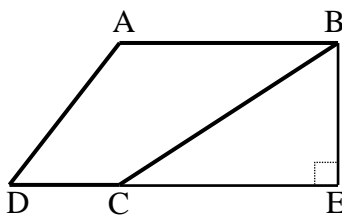
35) נתון טרפז ABCD, $(AB \parallel CD)$.



מורידים גובה AE מהקדקוד A.
היקף הטרפז הוא 68 ס"מ ונתון כי:
 $AD = 18$ ס"מ, $BC = 16$ ס"מ, $AB = 12$ ס"מ.

א. מצא את אורך הבסיס DC.
ב. מצא את הגובה AE אם ידוע כי שטח הטרפז הוא 255 סמ"ר.

36) נתון טרפז ABCD, $(AB \parallel CD)$.

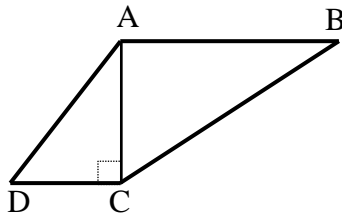


מהקדקוד B מורידים גובה חיצוני לטרפז BE
כאשר E נמצאת על המשך הבסיס DC.
ידוע כי: $AB = 20$ ס"מ, $DC = 8$ ס"מ.
וכי שטח הטרפז הוא 196 סמ"ר.

א. מצא את הגובה BE.

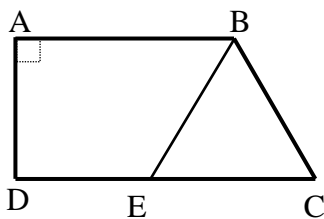
ב. נתון כי: $\angle D = 60^\circ$, $\angle BCD = 130^\circ$.

חשב את זווית A ואת זוויות המשולש BCE.



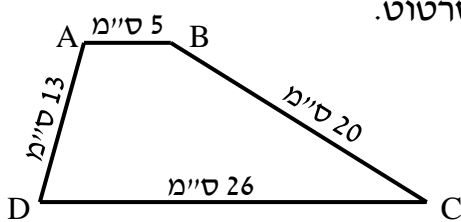
37 נתון טרפז $ABCD$, $(AB \parallel CD)$.

- האלכסון AC הוא גובה בטרפז ואורכו 12 ס"מ.
ידוע כי: $AD = AB = 13$ ס"מ, $BC = 17.7$ ס"מ.
היקף הטרפז הוא 48.7 ס"מ ו- $\angle B = 42.71^\circ$.
א. מצא את אורך הבסיס DC .
ב. חשב את שטח הטרפז.
ג. חשב את זווית C .

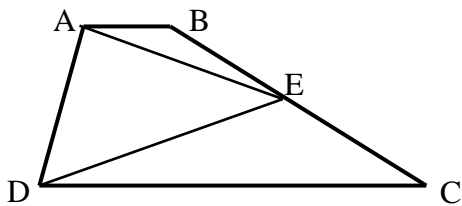


38 הטרפז $ABCD$, $(AB \parallel CD)$ הוא ישר זווית ($\angle A = 90^\circ$).

- מהנקודה E שעל הבסיס DC מעבירים את הקטע BE
כך שהמשולש BCE הוא שווה צלעות עם $BC = 14$ ס"מ.
היקף הטרפז $ABCD$ הוא 67 ס"מ ו- AD הוא 10 ס"מ.
א. מהו היקף הטרפז $ABED$?
ב. חשב את שטח הטרפז $ABED$.



39 נתון טרפז $ABCD$ שאורכי צלעותיו נתונים בסרטוט.
חשב את שטח הטרפז (פתור כתרגיל חישוב).

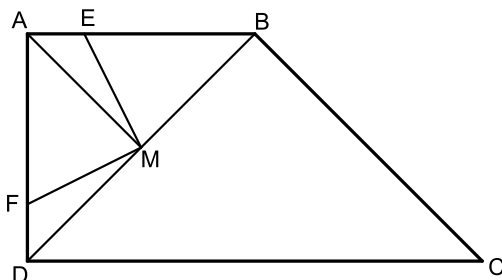


40 המרובע $ABCD$ הוא טרפז $(AB \parallel CD)$.
הנקודה E היא אמצע השוק BC .

$$\text{הוכח כי: } S_{ADE} = \frac{1}{2} S_{ABCD}$$

41 המרובע $ABCD$ הוא טרפז ישר זווית ($\angle A = 90^\circ$).

- הנקודה M נמצאת על אמצע האלכסון BD של הטרפז וממנה מעבירים את הקטעים ME ו- MF השווים זה לזה ומחברים אותה עם הקדקוד A .
נתון כי: $ME \perp MF$ וכי: $\angle DFM > 90^\circ$.



- א. הוכח: $\triangle AMF \cong \triangle BME$.
ב. נתון כי: $AE = FD = 1$, $BC = \sqrt{32}$.
כמו כן: $AM \parallel BC$.
i. מצא את אורך הקטע BE .
ii. חשב את שטח הטרפז $ABCD$.

תשובות סופיות:

- (33) א. 52.64 ס"מ $P =$, 138.456 סמ"ר $S =$. ב. 41.88 ס"מ $P =$, 96 סמ"ר $S =$.
 ג. 36 ס"מ $P =$, 72 סמ"ר $S =$. ד. 25.48 ס"מ $P =$, 31.5 סמ"ר $S =$.
- (34) $AB = 7$ ס"מ
- (35) א. $DC = 22$ ס"מ. ב. $AE = 15$ ס"מ
- (36) א. $BE = 14$ ס"מ. ב. $\angle A = 120^\circ$, $\angle CBE = 40^\circ$, $\angle BCE = 50^\circ$, $\angle E = 90^\circ$.
- (37) א. $DC = 5$ ס"מ. ב. 108 סמ"ר $S =$. ג. $\angle C = 137.29^\circ$.
- (38) א. 53 ס"מ $P =$. ב. 145 סמ"ר $S =$.
- (39) 186 סמ"ר.
- (40) שאלת הוכחה.
- (41) א. 3 ס"מ. ב. ii. 24 סמ"ר.

מכינה במתמטיקה להנדסת מכונות

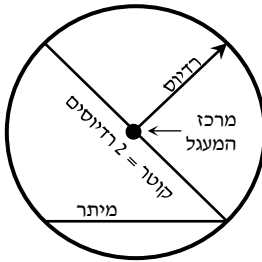
פרק 21 - גיאומטריה אוקלידית - המעגל

תוכן העניינים

315	1. הגדרות
316	2. קשתות ומיתרים במעגל
319	3. אנך אמצעי למיתר
321	4. זוויות מרכזיות והיקפיות במעגל
325	5. זווית היקפית הנשענת על קוטר
327	6. משיקים למעגל
330	7. משיק ומיתר
332	8. שני מעגלים
334	9. מעגל חוסם ומעגל חסום
337	10. שטחים והיקפים במעגל

הגדרות:

- מעגל – המקום הגאומטרי של כל הנקודות שמרחקן מנקודה קבועה קבוע.
- הנקודה הקבועה נקראת מרכז המעגל.
- רדיוס – קטע המחבר את מרכז המעגל עם נקודה על המעגל.
- מיתר – קטע המחבר שתי נקודות שעל המעגל.
- קוטר – מיתר העובר במרכז המעגל.
- היקף מעגל $= 2\pi R$.
- שטח מעגל $= \pi R^2$.
- קשת – חלק מהיקף המעגל.
- גזרה – חלק משטח המעגל.
- זווית מרכזית – זווית שקדקודה במרכז המעגל ושוקיה רדיוסים.
- זווית היקפית – זווית שקדקודה על היקף המעגל ושוקיה מיתרים.



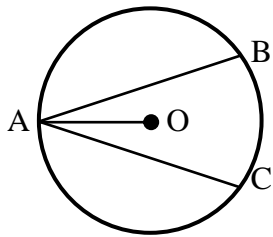
קשתות ומיתרים במעגל:

סיכום כללי:

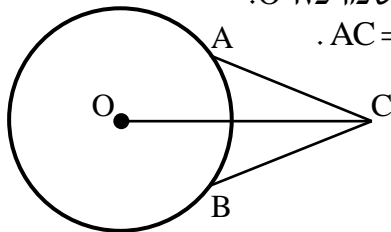
משפטים העוסקים במיתרים במעגל:

1. מיתרים שווים נשענים על קשתות שוות ולהפך.
2. על מיתרים שווים נשענות זוויות מרכזיות שוות ולהפך.
3. מיתרים שווים נמצאים במרחקים שווים ממרכז המעגל. (משפט הפוך) מיתרים הנמצאים במרחק שווה ממרכז המעגל שווים.

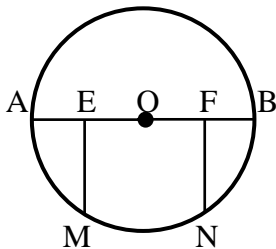
שאלות:



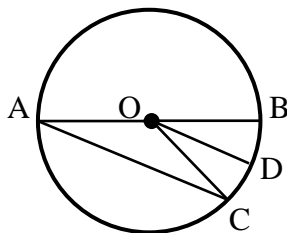
- (1) AB ו-AC הם שני מיתרים שווים במעגל שמרכזו O. הוכח כי AO חוצה את זווית BAC.




- (2) A ו-B הן שתי נקודות הנמצאות על היקף המעגל שמרכזו O. נקודה C הנמצאת מחוץ למעגל מקיימת כי: $AC = BC$. הוכח כי OC חוצה את זווית C.



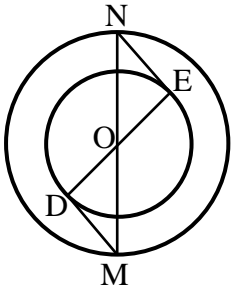
- (3) הקטע AB הוא קוטר במעגל שמרכזו O. נתון כי: $FN \perp AB$, $EM \perp AB$, $EO = FO$. הוכח כי $MN = EF$.



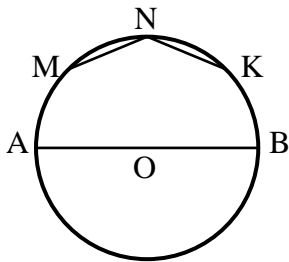
- (4) AB הוא קוטר במעגל שלפניך. AC הוא מיתר ו-O מרכז מעגל. הרדיוס OD חוצה את זווית BOC. הוכח כי DO מקביל ל-AC.



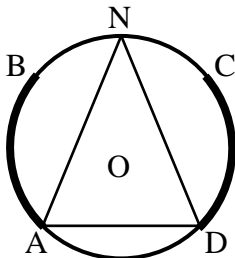
- 5) במעגל שלפניך AC ו-BD הם קטרים. הוכח כי המרובע ABCD הוא מלבן.




- 6) בשרטוט שלפניך שני מעגלים בעלי מרכז משותף O. הקטע MN הוא קוטר במעגל הגדול והקטע DE הוא קוטר במעגל הקטן. מעבירים את הקטעים MD ו-NE. הוכח כי MD שווה ל-NE.



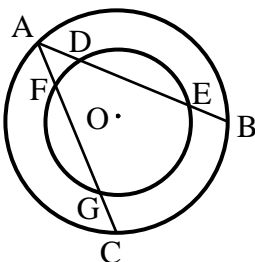
- 7) AB הוא קוטר במעגל שמרכזו O. את הקשת העליונה של AB מחלקים ל-4 קשתות שוות, כלומר: $\widehat{AM} = \widehat{MN} = \widehat{NK} = \widehat{KB}$. חשב את זווית KMN.



- 8) במעגל שלפניך נתון כי הקשתות המסומנות שוות ז"א: $\widehat{AB} = \widehat{CD}$. הנקודה N היא אמצע הקשת \widehat{BC} . הוכח כי המשולש AND הוא שווה שוקיים.



- 9) המיתרים MN ו-ML שווים זה לזה. המיתר MK חוצה את זווית NML. הוכח כי $\triangle KNM \cong \triangle KLM$. הוכח כי MK הוא קוטר במעגל.



- 10) נתונים שני מעגלים בעלי מרכז משותף O. מעבירים את המיתרים AB ו-AC במעגל הגדול. ידוע כי שני המיתרים שווים זה לזה. מסמנים את נקודות החיתוך של המיתרים עם המעגל הקטן ב-D ו-E עבור המיתר AB, ו-F ו-G עבור המיתר AC. הוכח: $DE = FG$.

תשובות סופיות:

- 1) שאלת הוכחה.
- 2) שאלת הוכחה.
- 3) שאלת הוכחה.
- 4) שאלת הוכחה.
- 5) שאלת הוכחה.
- 6) שאלת הוכחה.
- 7) 135° .
- 8) שאלת הוכחה.
- 9) שאלת הוכחה.
- 10) שאלת הוכחה.

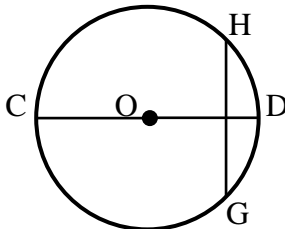
אנך אמצעי למיתר:

סיכום כללי:

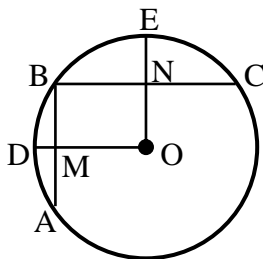
משפט אנך אמצעי למיתר:

1. אנך למיתר ממרכז המעגל חוצה את המיתר. (משפט הפוך ל-4 (1)) רדיוס החוצה מיתר מאונך לו. (משפט הפוך ל-4 (2)) קטע היוצא מאמצע מיתר ומאונך לו, עובר במרכז המעגל.

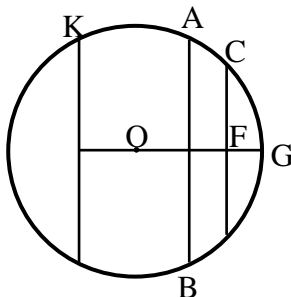
שאלות:



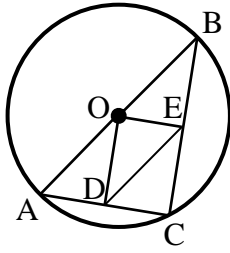
- 11** במעגל שמרכזו O המיתר GH מאונך לקוטר CD. הוכח כי $GC = HC$. נתון כי: $\widehat{HDG} = 80^\circ$. בת כמה מעלות הקשת \widehat{CG} ?



- 12** AB ו-BC הם מיתרים במעגל שמרכזו O. מעבירים את הרדיוסים OD ו-OE אשר חותכים את המיתרים AB ו-BC בנקודות M ו-N בהתאמה. ידוע כי מרובע ONBM הוא מלבן. נתונות המידות הבאות: $NE = 9$ ס"מ, $MD = 8$ ס"מ, $R = 29$ ס"מ. חשב את אורך כל אחד מהמיתרים AB ו-BC.



- 13** AB, CD ו-KL הם מיתרים במעגל שמרכזו O, והם חותכים את הקטע MG, העובר במרכז המעגל, בנקודות E, F ו-M בהתאמה. נתון $KL \parallel CD$, $CF = DF$. הוכח: $KM = LM$. נתון בנוסף כי: $ML = BE$, $AB \perp MG$. הוכח: $MO = EO$.



14 $\triangle ABC$ הוא משולש החסום במעגל O . המיתר AB הוא קוטר במעגל. הנקודות D ו- E נמצאות על הצלעות AC ו- BC בהתאמה. מעבירים את הקטעים OD ו- OE וידוע כי: $OD \perp AC$, $OE \perp BC$. הוכח כי DE שווה באורכו לרדיוס המעגל.

תשובות סופיות:

- 11** א. שאלת הוכחה. ב. 140° .
12 $AB = 40$ ס"מ, $BC = 42$ ס"מ.
13 שאלת הוכחה.
14 שאלת הוכחה.

זוויות מרכזיות והיקפיות במעגל:

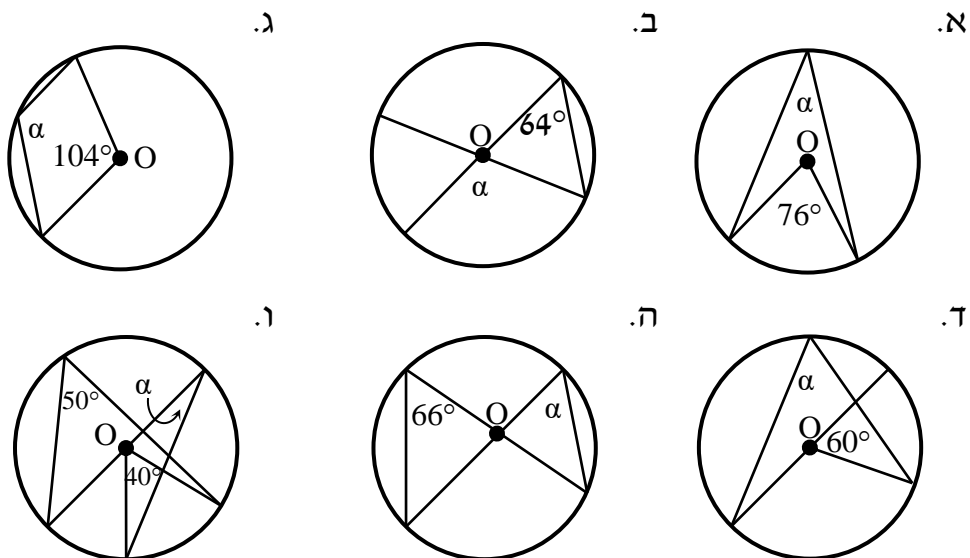
סיכום כללי:

משפטים העוסקים בזוויות במעגל:

- שתי זוויות היקפיות הנשענות על אותה קשת/קשתות שוות, שוות ביניהן. (משפט הפוך ל-5) זוויות היקפיות שוות נשענות על קשתות שוות.
- זווית היקפית שווה למחצית הזווית המרכזית הנשענת על אותה קשת.

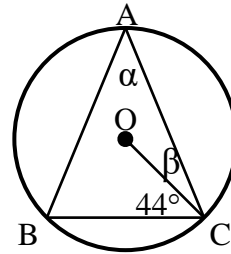
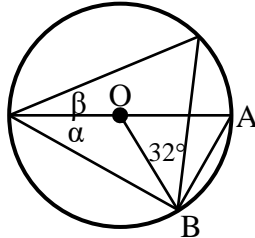
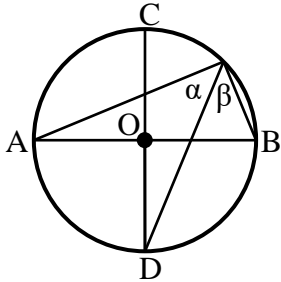
שאלות:

15 נתונים המעגלים הבאים שמרכזם הוא O. חשב את הזווית α בכל אחד מהמקרים.



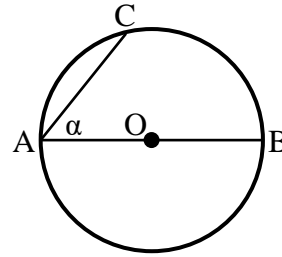
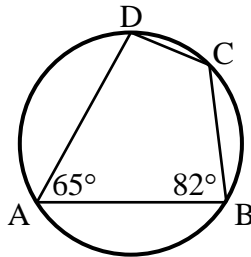
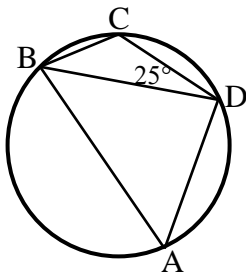
16 במעגלים הבאים שמרכזם O מופיעים הנתונים לידם.
חשב את הזוויות α ו- β בכל אחד מהמקרים:

- א. $AB = AC$.
ב. $\triangle AOB$ - שווה צלעות.
ג. AB, CD קטרים מאונכים זה לזה.

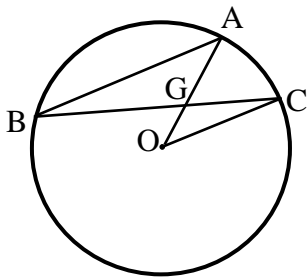


17 חשב את המבוקש בכל מקרה:

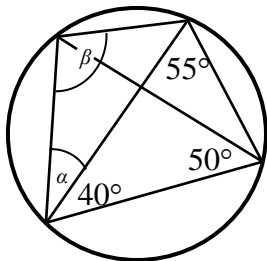
- א. AB קוטר, $\widehat{AC} = 84^\circ$.
ב. $\widehat{DC} = 52^\circ$.
ג. $\widehat{DC} = 60^\circ$.
חשב את α .
חשב $\angle BAD$.
חשב: $\widehat{AD}, \widehat{DC}, \widehat{AB}$.

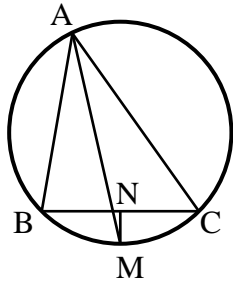


18 AB ו- BC הם מיתרים במעגל שמרכזו O.
נתון: $AB \parallel CO$, $\angle AGC = 60^\circ$.
חשב את גודלה של הזווית $\angle AOC$.

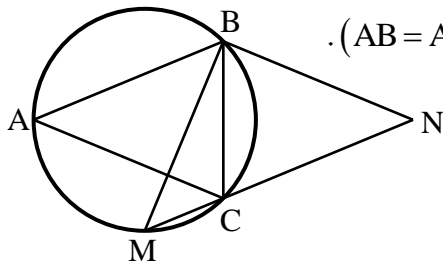


19 חשב את גודל הזוויות α ו- β במעגל הנתון.

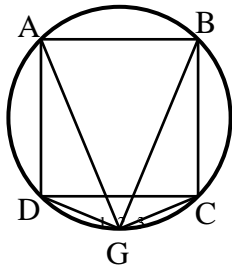




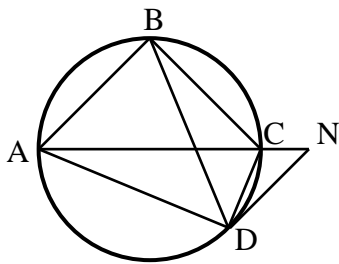
- (20)** המשולש ABC חסום במעגל.
 המיתר AM חוצה את זווית A.
 מעבירים אנך מהנקודה M לצלע BC
 החותך אותה בנקודה N.
 הוכח: $BN = CN$.



- (21)** בסרטוט שלפניך נתון כי המשולשים
 ABC ו-BMN הם שווים שוקיים ($AB = AC, BM = BN$).
 זווית הראש במשולש BMN היא 94° .
 חשב את זווית ACB.



- (22)** במעגל שלפניך חסום ריבוע ABCD.
 הנקודה G נמצאת על היקף המעגל.
 ממנה מעבירים מיתרים לכל קדקוד
 כך שנוצרות הזוויות $\sphericalangle G_1, \sphericalangle G_2, \sphericalangle G_3$.
 הוכח כי $\sphericalangle G_1 = \sphericalangle G_2 = \sphericalangle G_3$ ומצא אותן.



- (23)** המרובע ABCD חסום במעגל.
 ממשיכים את האלכסון AC עד לנקודה N
 ומחברים אותה עם הקדקוד D
 כך שמתקיים: $AB \parallel DN$.
 הוכח כי זוויות המשולשים $\triangle ADN$
 ו- $\triangle BDC$ שוות.

תשובות סופיות:

- (15) א. 38° ב. 128° ג. 128° ד. 60° ה. 66° ו. 30°
- (16) א. $\alpha = 46^\circ, \beta = 23^\circ$ ב. $\alpha = 30^\circ, \beta = 28^\circ$ ג. $\alpha = \beta = 45^\circ$
- (17) א. $\alpha = 48^\circ$ ב. $\widehat{AD} = 112^\circ, \widehat{BC} = 78^\circ, \widehat{AB} = 118^\circ$ ג. 55°
- (18) 40°
- (19) $\alpha = 35^\circ, \beta = 95^\circ$
- (20) שאלת הוכחה.
- (21) 68.5°
- (22) $\sphericalangle G_1 = \sphericalangle G_2 = \sphericalangle G_3 = 45^\circ$
- (23) שאלת הוכחה.

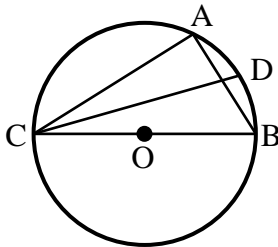
זווית היקפית הנשענת על קוטר:

סיכום כללי:

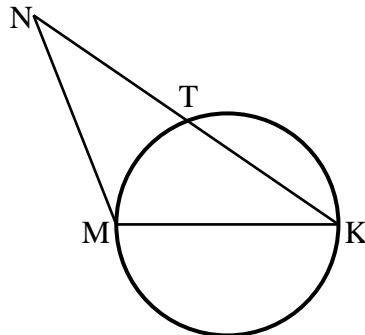
משפט:

1. זווית היקפית הנשענת על קוטר היא זווית ישרה.
(משפט הפוך) מיתר עליו נשענת זווית היקפית ישרה הוא קוטר.

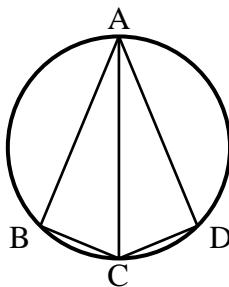
שאלות:



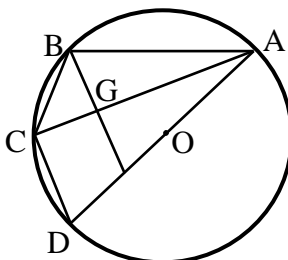
- (24)** המשולש ABC חסום במעגל שמרכזו O כך ש-BC הוא קוטר. מעבירים את המיתר CD המקיים: $\angle DCB = 20^\circ$. מצא את זווית CAD.



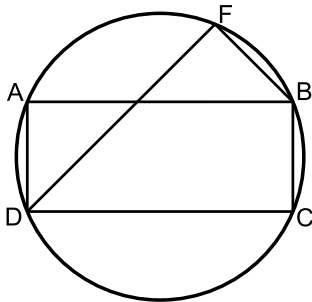
- (25)** MK הוא קוטר במעגל שלפניך. הקטע KN חותך את המעגל בנקודה T. מתקיים: $KT = NT$. הוכח כי: $MK = NM$.



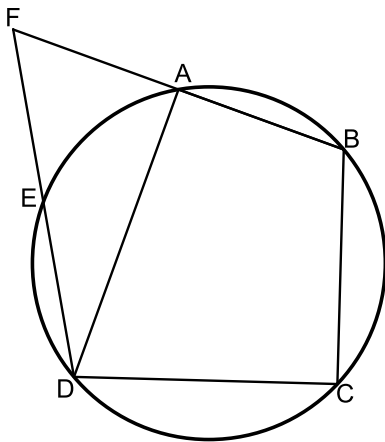
- (26)** מרובע ABCD חסום במעגל כאשר האלכסון AC הוא קוטר וחוצה את זווית BCD. הוכח כי ABCD הוא דלתון.



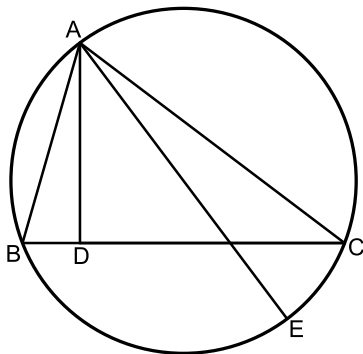
- (27)** AB, AC, AD, BC ו-CD הם מיתרים במעגל שמרכזו O (המיתר AD עובר ב-O). הקטע BE חותך את המיתר AC בנקודה G. נתון: $BE \parallel CD, BG = GE$. הוכח: $BC = CD$.



- (28)** המרובע ABCD הוא מלבן החסום במעגל.
 מהקדקוד D מעבירים את המיתר DF
 החותך את הצלע AB בנקודה E.
 ידוע כי: $\widehat{AF} = \widehat{CF}$.
 הצלע AD של המלבן תסומן ב- a .
 א. הוכח כי המשולש DAE הוא שווה שוקיים.
 ב. נתון גם כי: $BC = BF$.
 הבע באמצעות a את רדיוס המעגל.



- (29)** המרובע ABCD חסום במעגל.
 המשכי המיתרים AB ו-ED נפגשים בנקודה F.
 הקטע FD חותך את היקף המעגל בנקודה E
 כך שמתקיים: $\widehat{AB} = \widehat{AE}$.
 נתון כי הזווית BCD היא ישרה.
 א. הוכח כי הקטע DF שווה לקוטר המעגל.
 ב. נתון כי: $DF = BF$ וכי רדיוס המעגל
 הוא 12 ס"מ.
 הוכח כי המרובע AEDB הוא טרפז.
 ג. חשב את היקף הטרפז AEDB.



- (30)** משולש ABC חסום במעגל.
 AD גובה לצלע BC ו-AE קוטר במעגל.
 א. הוכח: $\angle BAD = \angle EAC$.
 נתון גם כי: $CE = \sqrt{21}, AD = 6, CD = 8$.
 ב. חשב את רדיוס המעגל.

תשובות סופיות:

- (24)** 110° .
(25) שאלת הוכחה.
(26) שאלת הוכחה.
(27) שאלת הוכחה.
(28) א. שאלת הוכחה. ב. $R = 1.3a$.
(29) א. שאלת הוכחה. ב. 5.5.
(30) א. $\alpha = 135^\circ$. ב. $\alpha = 45^\circ$. ג. $\alpha = 40^\circ$.

משיקים למעגל:

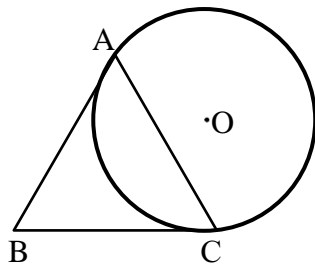
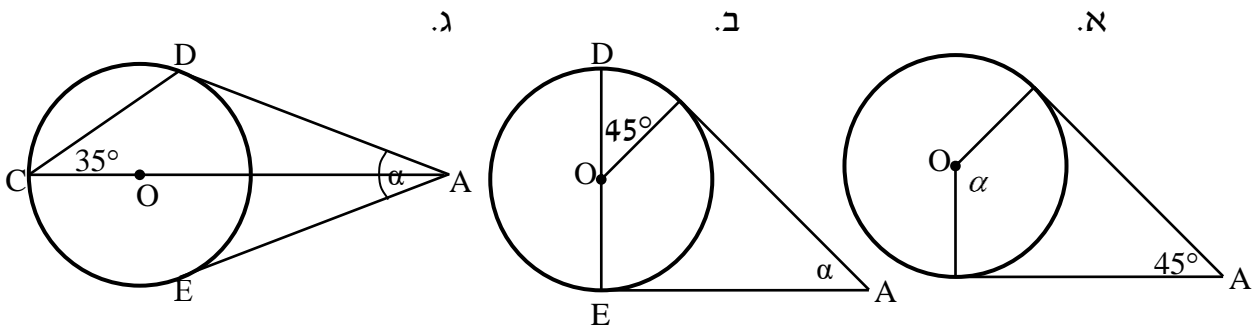
סיכום כללי:

משפטים העוסקים במשיק למעגל ושני משיקים למעגל:

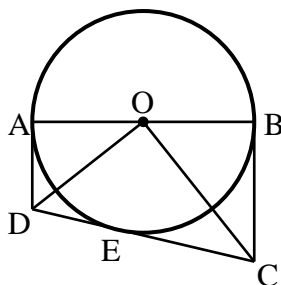
1. משיק מאונך לרדיוס בנקודת ההשקה. (משפט הפוך ל-8) קטע המאונך לרדיוס בקצהו משיק למעגל.
2. שני משיקים למעגל היוצאים מאותה נקודה שווים זה לזה.
3. קטע המחבר את מרכז המעגל עם נקודה שממנה יוצאים שני משיקים חוצה את הזווית בין המשיקים.

שאלות:

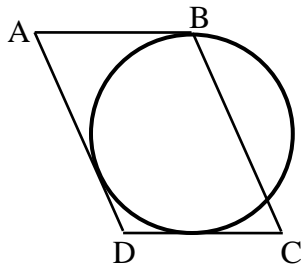
31 באיורים שלפניך נתונים שני משיקים למעגל היוצאים מנקודה A שמחוץ למעגל. מרכזי המעגלים מסומן ב-O. מצא את α בכל מקרה.



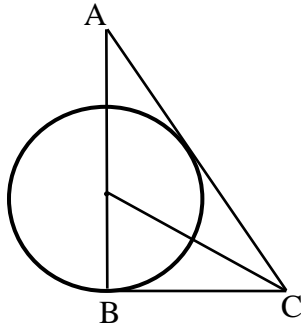
32 המשולש ABC הוא שווה שוקיים ($AB = AC$). המעגל O משיק לצלעות AB ו-BC בנקודות A ו-C. הוכח כי ABC הוא שווה צלעות.



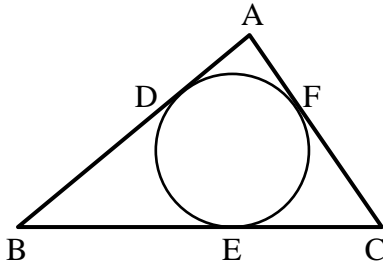
33 במעגל O מעבירים קוטר AB ושלושה משיקים AD, CD ו-BC. E היא נקודת ההשקה של CD עם המעגל. הוכח כי: $\angle COD = 90^\circ$.



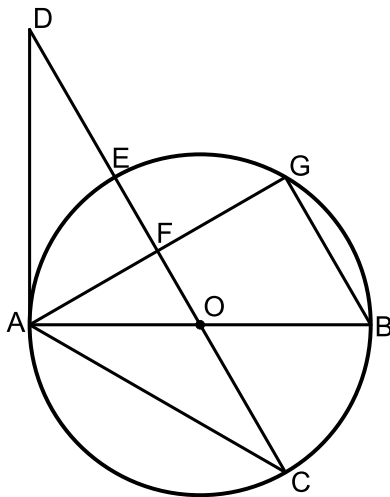
34 הצלעות AB , AD ו- DC של המקבילית $ABCD$ משיקות למעגל בנקודות B , L ו- K בהתאמה (ראה שרטוט). נתון: $BC = 14$ ס"מ, $CK = 6$ ס"מ. חשב את היקף המקבילית.



35 הצלעות AC ו- BC של המשולש ABC משיקות למעגל שמרכזו O , בנקודות K ו- B בהתאמה. הצלע AB עוברת בנקודה O . נתון: $AB = 15$ ס"מ, $AK = CK$.
 א. חשב את גודלה של זווית A .
 ב. חשב את אורכו של רדיוס המעגל.



36 משולש ABC חוסם מעגל אשר משיק לצלעותיו בנקודות D , E ו- F כמתואר באיור. נתון כי: $AC = 18$ ס"מ, $BD = 14$ ס"מ. מצא את היקף המשולש ABC .



37 AB הוא קוטר במעגל שמרכזו O . מהנקודה A מעבירים את המיתרים AC ו- AG ואת המשיק AD כך שהמשולש ACD שווה שוקיים. הישר CD חותך את היקף המעגל בנקודה E , את המיתר AG בנקודה F ועובר דרך מרכז המעגל O . המיתר BG מקביל לישר החותך CD .
 א. חשב את זוויות המשולש ACD .
 ב. הוכח כי: $AF = FG$.
 ג. רדיוס המעגל יסומן ב- R . הוכח כי: $DC = 3R$.

תשובות סופיות:

- (31) א. $\alpha = 135^\circ$
(32) שאלת הוכחה.
(33) שאלת הוכחה.
(34) 48 ס"מ.
(35) א. 30°
(36) 64 ס"מ.
(37) א. $30^\circ, 30^\circ, 120^\circ$. ב. שאלת הוכחה. ג. שאלת הוכחה.
- ג. $\alpha = 40^\circ$.
ב. $\alpha = 45^\circ$.
ב. 5 ס"מ.

משיק ומיתר:

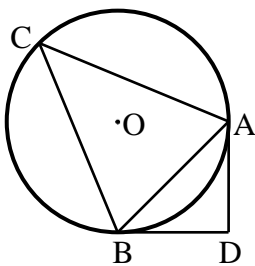
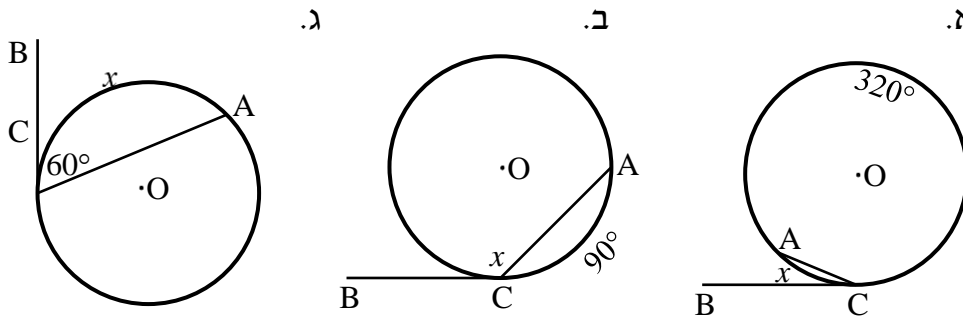
סיכום כללי:

משפט:

1. הזווית הכלואה בין משיק למיתר שווה לזווית ההיקפית הנשענת על המיתר מצדו השני.

שאלות:

38) באיורים שלפניך נתון מעגל שמרכזו O, מיתר AC ומשיק BC בנקודה C. מצא את x.



39) ABC הוא משולש שווה שוקיים ($AC = BC$)

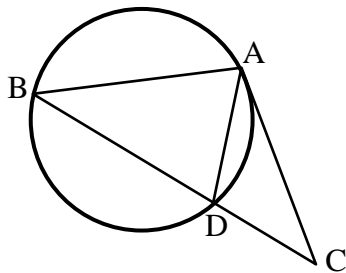
החסום במעגל שמרכזו O.

מהקדקודים A ו-B מעבירים משיקים אשר נחתכים

בנקודה D.

ידוע כי זווית הבסיס במשולש ABC היא 68° .

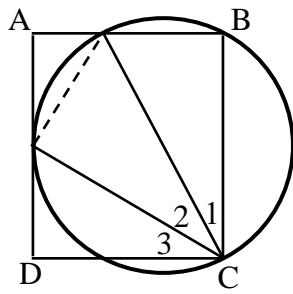
חשב את זווית ADB.



40) AC הוא משיק למעגל בנקודה A.

BC חותך את המעגל בנקודה D.

נתון כי $AD = CD$, הוכח: $AB = AC$.



- 41** הקדקודים B ו-C של המלבן ABCD מונחים על מעגל. צלע AD משיקה למעגל בנקודה G והצלע AB חותכת את המעגל בנקודה H.
 הוכח: $\sphericalangle C_2 = \sphericalangle C_3$.
 (הדרכה: סמן $\sphericalangle AGH = \alpha$.)

תשובות סופיות:

- 38** א. $x = 20^\circ$ ב. $x = 135^\circ$ ג. $x = 120^\circ$
- 39** 92°
- 40** שאלת הוכחה.
- 41** שאלת הוכחה.

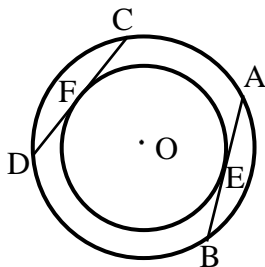
שני מעגלים:

סיכום כללי:

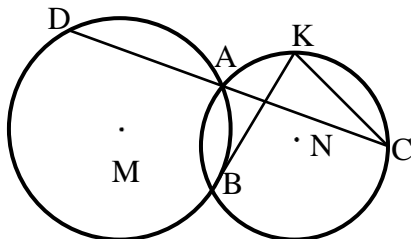
משפטים העוסקים בשני מעגלים:

1. קטע המרכזים של שני מעגלים נחתכים חוצה את המיתר המשותף ומאונך לו.
2. קטע המרכזים (או המשכו) של שני מעגלים משיקים עובר בנקודת ההשקה.

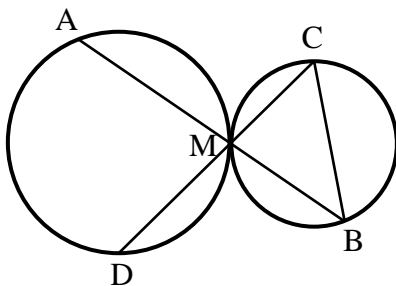
שאלות:



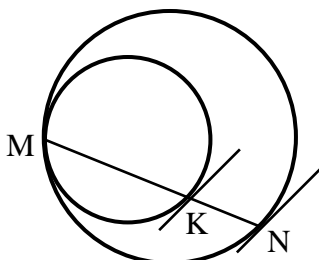
- 42** נתונים שני מעגלים בעלי מרכז משותף O. דרך שתי נקודות E ו-F שעל היקף המעגל הפנימי מעבירים משיקים אשר חותכים את המעגל החיצוני בנקודות A, B, C ו-D. הוכח כי המיתרים AB ו-CD הנוצרים באופן זה שווים.



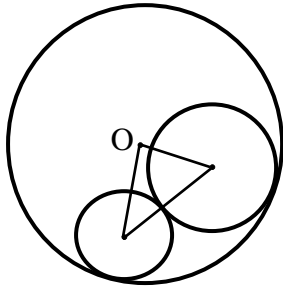
- 43** שני מעגלים M ו-N נחתכים בנקודות A ו-B. הישר CD עובר דרך הנקודה A. מעבירים משיק למעגל M בנקודה B החותך את המעגל N בנקודה K. הוכח כי: $CK \parallel BD$.



- 44** שני מעגלים משיקים זה לזה מבחוץ בנקודה M. דרך הנקודה M מעבירים שני ישרים חותכים האחד חותך את המעגל השמאלי בנקודה A ואת הימני בנקודה B והאחר חותך את המעגל השמאלי בנקודה D ואת הימני בנקודה C. הוכח כי $AD \parallel BC$.

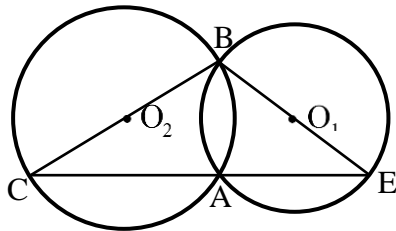


- 45** שני מעגלים משיקים זה לזה מבפנים בנקודה M. מעבירים מיתר MN במעגל החיצוני אשר חותך את המעגל הפנימי בנקודה K. הוכח כי המשיקים לשני המעגלים בנקודות N ו-K מקבילים זה לזה.



46 המעגלים שמרכזיהם M ו-G משיקים מבחוץ זה לזה ומשיקים מבפנים למעגל שמרכזו O. נתון כי רדיוס המעגל שמרכזו O הוא 8 ס"מ. חשב את היקף המשולש OMG .

47 שני מעגלים שמרכזיהם O_1 ו- O_2 נחתכים בנקודות A ו-B. מעבירים את הקטרים BC ו-BE.



א. הוכח כי הנקודות C, E ו-A נמצאות על ישר אחד.
ב. הוכח כי O_1O_2 הוא קטע אמצעים במשולש BCE.

תשובות סופיות:

- 42 שאלת הוכחה.
- 43 שאלת הוכחה.
- 44 שאלת הוכחה.
- 45 שאלת הוכחה.
- 46 16 ס"מ.
- 47 שאלת הוכחה.

מעגל חוסם ומעגל חסום:

סיכום כללי:

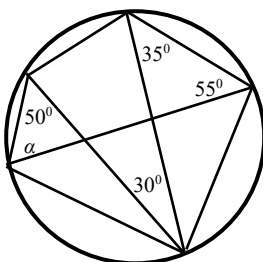
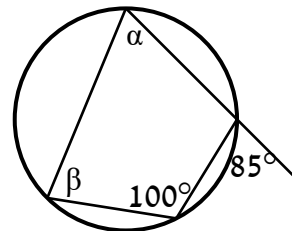
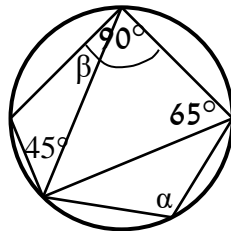
משפטים העוסקים במעגל חוסם ומעגל חסום:

1. מרכז מעגל החוסם משולש הוא מפגש האנכים האמצעיים במשולש.
2. מרכז מעגל החסום במשולש הוא מפגש חוצי הזווית במשולש.
3. במרובע החסום במעגל, סכום כל שתי זוויות נגדיות הוא 180° .
(משפט הפוך) אם במרובע סכום זוג זוויות נגדיות הוא 180° , המרובע בר חסימה במעגל.
4. במרובע החוסם מעגל סכום זוג צלעות נגדיות שווה לסכום הזוג השני.
(משפט הפוך) אם במרובע סכום זוג צלעות נגדיות שווה לסכום הזוג השני אז ניתן לחסום בתוכו מעגל.
5. כל מצולע משוכלל ניתן לחסום במעגל וניתן לחסום בתוכו מעגל.

שאלות:

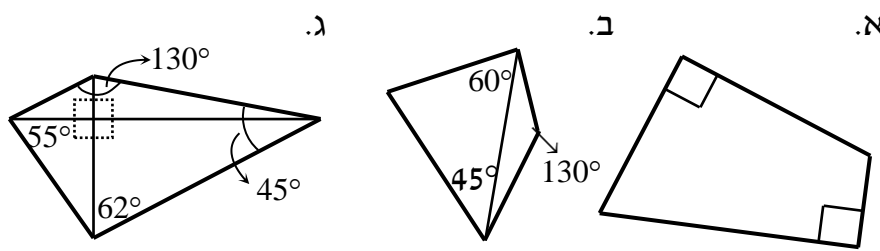
- 48** AD הוא התיכון לצלע BC במשולש ABC.
 א. הוכח: אם מרכז המעגל החסום במשולש ABC נמצא על AD אז המשולש ABC הוא שווה שוקיים.
 ב. בהמשך לסעיף א', האם מרכז המעגל החוסם את משולש ABC נמצא על AD?

- 49** מצא את הנעלמים בכל אחד מהסרטוטים שלפניך:
 א.
 ב.

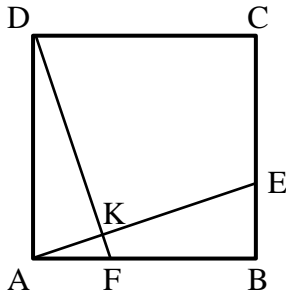


- 50** חשב את גודלה של הזווית α בסרטוט הבא:

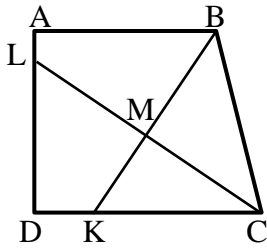
51) קבע אלו מהמרובעים הבאים ניתן לחסום במעגל:



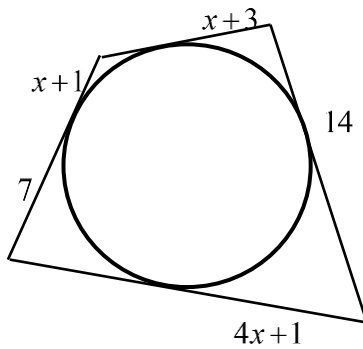
52) בריבוע ABCD נתון כי $AF = BE$. הנקודה K היא חיתוך של הקטעים AE ו-DF. הוכח כי את המרובע DKEC ניתן לחסום במעגל.



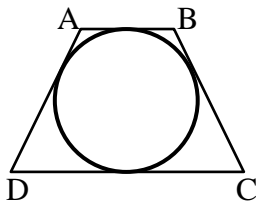
53) בטרפז ישר זווית ABCD שבו השוק AD מאונכת לבסיסים AB ו-DC הנקודות K ו-L נמצאות על הצלעות DC ו-AD בהתאמה, כך שהקטעים BK ו-CL הם חוצי הזוויות B ו-C בהתאמה. חוצי הזוויות נפגשים בנקודה M. הוכח: את המרובע DKML ניתן לחסום במעגל. הערה: בסרטון השאלה מוצגת ללא הסרטוט הנתון.



54) חשב את גודלו של x בשרטוט הבא:



55) בטרפז שווה שוקיים ABCD ($AB \parallel CD$) שהיקפו 60 ס"מ וזוויות הבסיס החדות שלו הן 60° חסום מעגל. מצא את אורכי צלעות הטרפז.



תשובות סופיות:

(48) שאלת הוכחה.

(49) א. $\alpha = 80^\circ$, $\beta = 85^\circ$ ב. $\alpha = 110^\circ$, $\beta = 20^\circ$.

(50) $\alpha = 70^\circ$.

(51) ניתן לחסום את מרובע אי בלבד.

(52) שאלת הוכחה.

(53) שאלת הוכחה.

(54) $x = 2$

(55) 15 ס"מ, 15 ס"מ, 7.5 ס"מ, 22.5 ס"מ.

שטחים והיקפים במעגל:

שאלות:

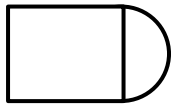
56) ענה על השאלות הבאות:

א. היקפו של עיגול הוא 44 ס"מ. חשב את שטחו.

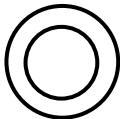


ב. הצורה שבאיור היא $\frac{3}{4}$ עיגול.

היקף הצורה שווה ל-45 ס"מ.
חשב את אורך הרדיוס של העיגול.

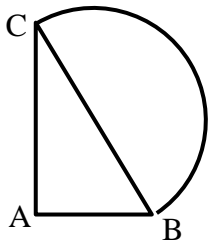


ג. שטח צורה המורכבת מריבוע וחצי עיגול הוא 30 סמ"ר.
חשב את רדיוס חצי העיגול.



ד. שטח טבעת הוא 55π סמ"ר.

הרדיוס הפנימי הוא 3 ס"מ.
חשב את הרדיוס החיצוני של הטבעת.



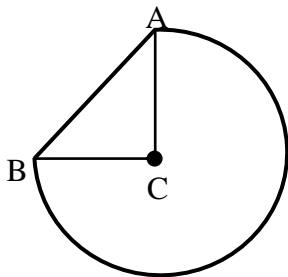
57) נתון משולש ישר זווית ABC, ($\sphericalangle A = 90^\circ$).

על היתר BC בונים חצי עיגול.

נתון: $AB = 10$ ס"מ, $AC = 24$ ס"מ, $BC = 26$ ס"מ.

א. חשב את היקף הצורה המורכבת.

ב. חשב את שטח הצורה המורכבת.



58) באיור שלפניך שלושה רבעי עיגול החסומים

ע"י הקטע AB ומשולש ישר זווית ABC (C מרכז העיגול).

ידוע כי רדיוס העיגול הוא 14 ס"מ

וכי אורך הקטע AB הוא 19.8 ס"מ.

א. חשב את היקף הצורה המורכבת.

ב. חשב את שטח הצורה המורכבת.

59) באיור שלפניך נתון טרפז שווה שוקיים ABCD, ($AB \parallel CD, AD = BC$).

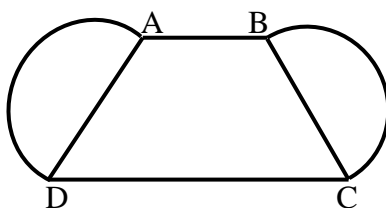
על שוקי הטרפז בונים חצאי עיגולים.

נתון: $AB = 10$ ס"מ, $CD = 16$ ס"מ, $BC = 12$ ס"מ.

אורך גובה הטרפז הוא 11.6 ס"מ.

א. חשב את היקף הצורה המורכבת.

ב. חשב את שטח הצורה המורכבת.



60 נתון טרפז $ABCD$, $(AB \parallel CD)$. מעבירים את האלכסון AC אשר מאונך

לבסיסים AB ו- DC של הטרפז. על השוק BC בונים חצי עיגול.

נתון: $AB = 24$ ס"מ, $AC = 18$ ס"מ.

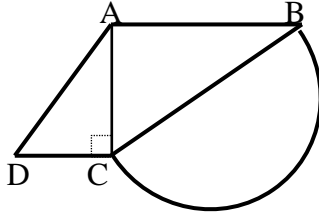
שטח הטרפז הוא 283.5 סמ"ר.

א. מצא את הבסיס DC .

ב. חשב את רדיוס העיגול.

ג. חשב את היקף הצורה המורכבת.

ד. חשב את שטח הצורה המורכבת.



61 המרובע $ABCD$ הוא מקבילית.

על הצלעות BC ו- AD בונים שני חצאי עיגול זהים בעלי רדיוס R .

מעבירים את האלכסון AC .

ידוע כי האלכסון AC מאונך לצלע BC .

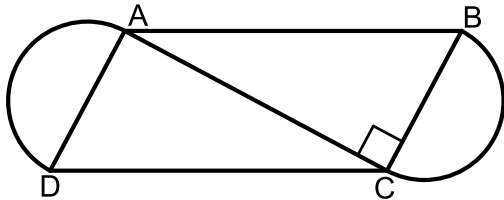
נתון: $AB = 4R + 1$, $AC = 4R - 1$.

א. מצא את רדיוס העיגולים, R .

ב. חשב את היקף המקבילית $ABCD$.

ג. חשב את השטח של הצורה המורכבת

מהמקבילית ושני חצאי העיגולים.



62 נתון מעגל שאורך רדיוסו הוא 16 ס"מ.

חשב את אורך הקשת ואת שטח הגזרה המתאימות לזווית מרכזית

בכל אחד מהמקרים הבאים:

א. 60°

ב. 45°

ג. 270°

ד. 17°

63 על הרדיוס OA של מעגל O בונים חצי מעגל אשר קוטרו הוא OA .

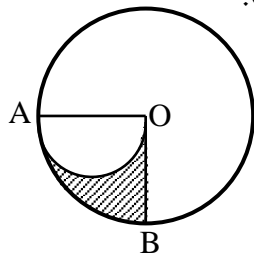
ידוע כי $\angle BOA = 90^\circ$.

א. חשב את השטח המקווקו OBA

אם ידוע כי $OA = 10$ ס"מ.

ב. הוכח באופן כללי כי שטח הגזרה OBA

שווה לשטח חצי מעגל אשר קוטרו הוא OA .

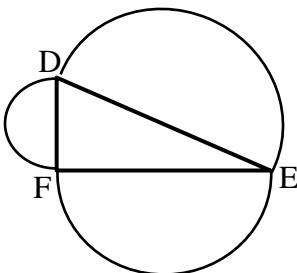


64 על הצלעות של משולש ישר זווית $\triangle DEF$ ($\angle F = 90^\circ$)

בונים חצאי מעגלים.

הוכח כי שטח חצי המעגל הבנוי על היתר שווה

לסכום שטחי חצאי המעגלים הבנויים על הניצבים.



תשובות סופיות:

- (56) א. $S = \frac{484}{\pi}$ סמ"ר
 ב. $R = 6.706$ ס"מ
 ג. $R = 2.32$ ס"מ
 ד. $R = 8$ ס"מ
- (57) א. $P = 74.84$ ס"מ
 ב. $S = 385.46$ סמ"ר
- (58) א. $P = 85.77$ ס"מ
 ב. $S = 559.814$ סמ"ר
- (59) א. $P = 63.7$ ס"מ
 ב. $S = 263.89$ סמ"ר
- (60) א. $DC = 7.5$ ס"מ
 ב. $R = 15$ ס"מ
 ג. $P = 98.12$ ס"מ
 ד. $S = 636.929$ סמ"ר
- (61) א. $R = 4$ ס"מ
 ב. $P_{ABCD} = 50$ ס"מ
 ג. $S = 120 + 16\pi \approx 170.26$ סמ"ר
- (62) א. $l = 5\frac{1}{3}\pi$ ס"מ, $S = 42\frac{2}{3}\pi$ סמ"ר
 ב. $l = 4\pi$ ס"מ, $S = 32\pi$ סמ"ר
- (63) א. 12.5π סמ"ר
 ב. שאלת הוכחה.
 ג. $l = 24\pi$ ס"מ, $S = 192\pi$ סמ"ר
 ד. $l = 1.51\pi$ ס"מ, $S = 12.08\pi$ סמ"ר
- (64) שאלת הוכחה.

מכינה במתמטיקה להנדסת מכונות

פרק 22 - טריגונומטריה במשולש ישר זווית

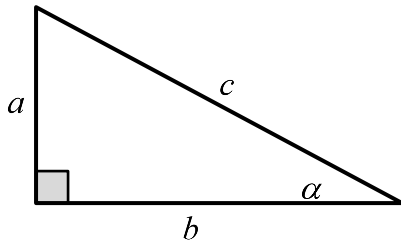
תוכן העניינים

1. משולש ישר זווית..... 340

משולש ישר זווית:

סיכום כללי:

הגדרות הפונקציות הטריגונומטריות:



$$\sin \alpha = \frac{\text{הניצב שמול הזווית}}{\text{היתר}} = \frac{a}{c}$$

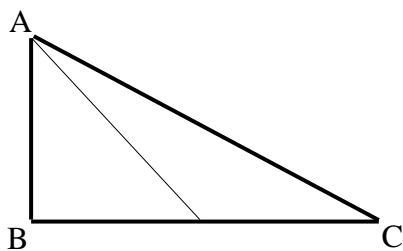
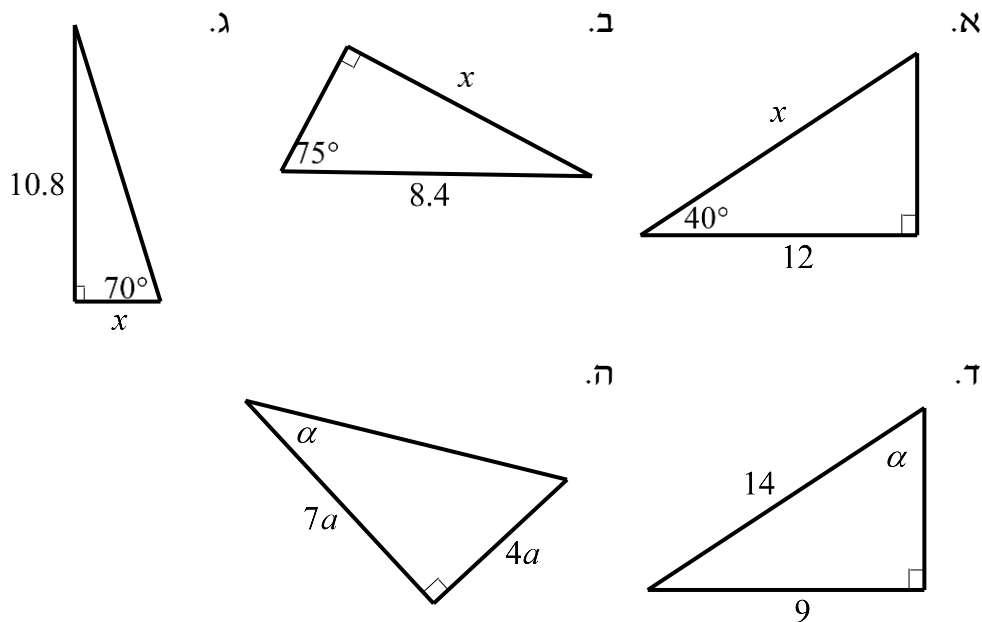
$$\cos \alpha = \frac{\text{הניצב שליד הזווית}}{\text{היתר}} = \frac{b}{c}$$

$$\tan \alpha = \frac{\text{הניצב שמול הזווית}}{\text{הניצב שליד הזווית}} = \frac{a}{b}$$

$$a^2 + b^2 = c^2: \text{משפט פיתגורס}$$

שאלות:

1) מצא את ערכו של α/x במשולשים ישרי הזווית הבאים:



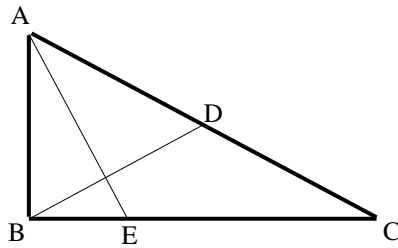
2) המשולש ABC שבציור הוא משולש

ישר זווית ($\sphericalangle B = 90^\circ$).

AD הוא התיכון לניצב BC.

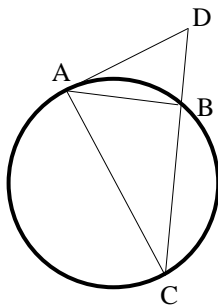
נתון: $\sphericalangle C = 28^\circ$, $AB = 6$ ס"מ.

מצא את AD ואת $\sphericalangle BAD$.



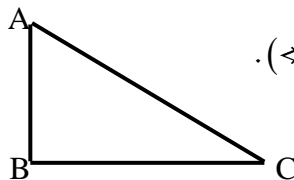
- (3) המשולש ABC שבציור הוא משולש ישר זווית ($\angle B = 90^\circ$). BD הוא התיכון ליתר ו-AE הוא חוצה הזווית $\angle A$. נתון: $BC = 8$ ס"מ, $BD = 5.6$ ס"מ. מצא את BE ואת $\angle BAE$.

- (4) מצא את זוויותיו של מעוין שאורכי אלכסונו 24 ס"מ ו-18 ס"מ.

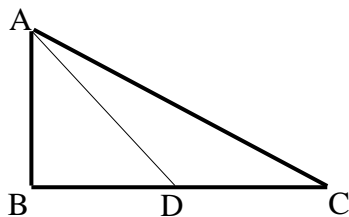


- (5) המשולש ABC חסום במעגל כך שהצלע AC היא קוטר המעגל. המשיק למעגל בנקודה A והמשך הצלע CB נפגשים בנקודה D. נתון: $BD = 4$ ס"מ, $\angle DAB = 32^\circ$. מצא את אורכו של רדיוס המעגל.

- (6) במשולש שווה שוקיים שבו השוק ארוכה ב-4 ס"מ מהבסיס נתון כי זווית הראש היא 34.92° . מצא את שטח המשולש.

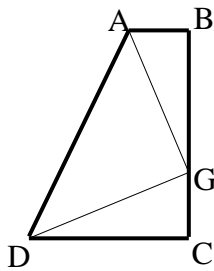


- (7) המשולש ABC שבציור הוא משולש ישר זווית ($\angle B = 90^\circ$). נתון: $AB = a$, $\angle A = \alpha$. הבע באמצעות a ו- α את היקף המשולש.

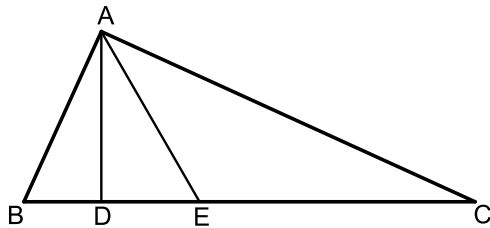


- (8) המשולש ABC שבציור הוא משולש ישר זווית ($\angle B = 90^\circ$). AD הוא התיכון לניצב BC. נתון: $AB = b$, $\angle C = \alpha$. הבע באמצעות b ו- α את אורכי הקטעים AD ו-BD.

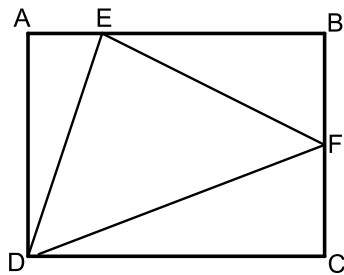
- (9) במשולש ישר זווית אחת הזוויות החדות היא α ואורך חוצה הזווית זו הוא k . הבע באמצעות k ו- α את שטח המשולש ואת אורך היתר.



- 10** טרפז ABCD הוא טרפז ישר זווית ($\angle B = \angle C = 90^\circ$). הנקודה G נמצאת על השוק BC כך ש- $AG \perp DG$. נתון: $\angle BAG = \beta$, $AG = DG = m$. הבע באמצעות β ו- m את שטח הטרפז.



- 11** המשולש ABC הוא ישר זווית ($\angle A = 90^\circ$). הקטעים AD ו-AE הם בהתאמה גובה ליתר וחוצה זווית. מסמנים: $\angle DAE = \alpha$, $DE = k$.
 א. הבע באמצעות k ו- α את שטח המשולש ABC.
 ב. חשב את שטח המשולש ABC אם ידוע כי: $\alpha = 30^\circ$ ו- $k = 2$.

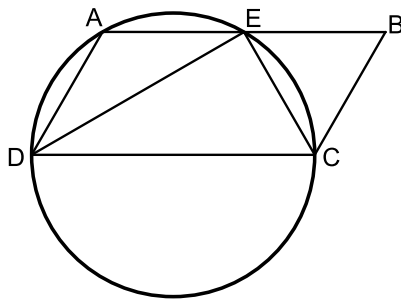


- 12** במלבן ABCD מסמנים את הנקודות E ו-F הנמצאות על הצלעות AB ו-BC בהתאמה כך ש-E מקיימת: $3AE = BE$ ו-F היא אמצע הצלע BC. אורך הצלע AD שווה לאורך הקטע BE. מעבירים את הקטעים EF, DF ו-DE כך שנוצר במשולש DEF.
 א. סמן ב- t את אורך הקטע AE והבע באמצעות t את אורכי צלעות המשולש DEF.
 ב. חשב את זוויות המשולש EDF.

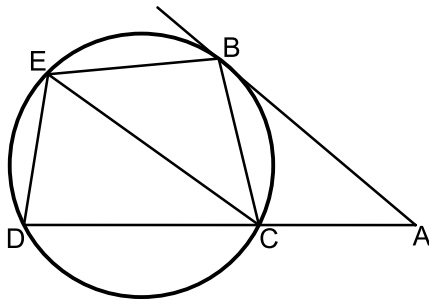
- 13** משולש שווה שוקיים שאורך שוקו k וזווית הבסיס שלו היא β חוסם מעגל. הבע באמצעות β ו- k את רדיוס המעגל.

- 14** בטרפז ישר זווית חסום מעגל. אורך השוק הארוכה בטרפז היא b והזווית שהיא יוצרת עם הבסיס הגדול היא α . הבע באמצעות α ו- b את אורכו של הבסיס הגדול בטרפז ואת שטחו.

הערה: השאלות הבאות משלבות ידע בגיאומטריה ובטריגונומטריה יחד:



- 15) דרך הקודקודים A, C ו- D של המקבילית $ABCD$ מעבירים מעגל. היקף המעגל חוצה את הצלע AB בנקודה E , $(AE = BE)$. נתון כי DC הוא קוטר במעגל וכי המיתר DE חוצה את זווית D .
- הוכח כי המיתר CE חוצה את זווית C .
 - רדיוס המעגל יסומן ב- R . הבע באמצעות R את היקף המקבילית.
 - מצא את רדיוס המעגל אם ידוע כי שטח המקבילית הוא $16\sqrt{3}$ סמ"ר.



- 16) מהנקודה A שמחוץ למעגל מעבירים משיק AB וישר חותך ACD . מעבירים את המיתרים BC ו- BE אשר זהים באורכם. כמו כן מעבירים את המיתר DE . אורך המיתר CE שונה מאורך המשיק AB .
- הוכח כי המרובע $ABEC$ הוא טרפז.
 - הוכח כי: $\angle BEC = 2 \cdot \angle EDC$.
 - נתונים: $\angle A = 40^\circ$, $AC = 6$ ס"מ, $AB = 9$ ס"מ, $CE = 8$ ס"מ. חשב את שטח המרובע $ABEC$.

תשובות סופיות:

$$(1) \quad \text{א. } x = 15.665 \quad \text{ב. } x = 8.114 \quad \text{ג. } x = 3.931 \quad \text{ד. } \alpha = 40.005^\circ \quad \text{ה. } \alpha = 29.745^\circ$$

$$(2) \quad AD = 8.236 \text{ ס"מ}, \quad \sphericalangle BAD = 43.24^\circ$$

$$(3) \quad BE = 3.294 \text{ ס"מ}, \quad \sphericalangle BAE = 22.792^\circ$$

$$(4) \quad 73.74^\circ, 73.74^\circ, 106.26^\circ, 106.26^\circ$$

$$(5) \quad R = 6.04 \text{ ס"מ}$$

$$(6) \quad S = 28.618 \text{ סמ"ר}$$

$$(7) \quad P = a \left(1 + \tan \alpha + \frac{1}{\cos \alpha} \right)$$

$$(8) \quad AD = \sqrt{b^2 + \frac{b^2}{4 \tan^2 \alpha}}, \quad BD = \frac{b}{2 \tan \alpha}$$

$$(9) \quad AC = \frac{k \cos \frac{\alpha}{2}}{\cos \alpha}, \quad S = \frac{k^2 \cos^2 \frac{\alpha}{2} \tan \alpha}{2}$$

$$(10) \quad \frac{(m \sin \beta + m \cos \beta)^2}{2}$$

$$(11) \quad \text{א. } S = \frac{k^2}{\cos 2\alpha \tan^2 \alpha} \quad \text{ב. } 24 \text{ סמ"ר}$$

$$(12) \quad \text{א. } DE = t\sqrt{10}, EF = t\sqrt{11.25}, DF = t\sqrt{18.25} \quad \text{ב. } 81.86^\circ, 51^\circ, 47.14^\circ$$

$$(13) \quad R = k \cos \beta \tan \frac{\beta}{2}$$

$$(14) \quad \frac{1}{2} b \sin \alpha + \frac{\frac{1}{2} b \sin \alpha}{\tan \frac{\alpha}{2}}, \quad S = \frac{1}{2} b^2 \sin \alpha (1 + \sin \alpha)$$

$$(15) \quad \text{א. שאלת הוכחה.} \quad \text{ב. } 6R \quad \text{ג. } 4 \text{ ס"מ}$$

$$(16) \quad \text{א. שאלת הוכחה.} \quad \text{ב. שאלת הוכחה.} \quad \text{ג. } 32.78 \text{ סמ"ר}$$

מכינה במתמטיקה להנדסת מכונות

פרק 23 - זהויות טריגונומטריות

תוכן העניינים

345	1. זהויות יסוד
349	2. ערכי הפונקציות הטריגונומטריות עבור זוויות מיוחדות
351	3. מעגל היחידה
354	4. סכום והפרש זוויות
358	5. זווית כפולה
361	6. סכום והפרש פונקציות
364	7. מכפלת פונקציות

זהויות יסוד:

סיכום כללי:

$\sin^2 \alpha + \cos^2 \alpha = 1$ $\tan \alpha \cdot \cot \alpha = 1$	$\tan \alpha = \frac{\sin \alpha}{\cos \alpha}$, $\cot \alpha = \frac{\cos \alpha}{\sin \alpha}$	קשרים בין פונקציות
$\sin \alpha = \cos(90^\circ - \alpha)$	$\cos \alpha = \sin(90^\circ - \alpha)$	זוויות משלימות ל- 90°
$\tan \alpha = \cot(90^\circ - \alpha)$	$\cot \alpha = \tan(90^\circ - \alpha)$	
$\tan^2 \alpha + 1 = \frac{1}{\cos^2 \alpha}$	$\cot^2 \alpha + 1 = \frac{1}{\sin^2 \alpha}$	קשרים בין פונקציות

שאלות:

הוכחת זהויות יסודיות:

הוכח את הזהויות הבאות תוך שימוש בזהויות היסוד:

$$\frac{1 - \sin^2 \alpha}{\cos^2 \alpha} = 1 \quad (2)$$

$$\sin^2 \alpha + 2 \cos^2 \alpha = 1 + \cos^2 \alpha \quad (4)$$

$$(\sin \alpha + \cos \alpha)^2 + (\sin \alpha - \cos \alpha)^2 = 2 \quad (6)$$

$$\sin^2(\alpha + 45^\circ) + \sin^2(45^\circ - \alpha) = 1 \quad (8)$$

$$\frac{\sin \alpha (1 - \cos^2 \alpha)}{\cos^3 \alpha} = \tan^3 \alpha \quad (10)$$

$$\cos^2 \alpha (1 + \tan^2 \alpha) = 1 \quad (12)$$

$$\frac{\sin^3 \alpha}{\sin(90^\circ - \alpha) - \cos^3 \alpha} = \tan \alpha \quad (14)$$

$$\frac{1 - 2 \sin^2 \alpha \cos^2 \alpha}{\sin^2 \alpha \cdot \cos^2 \alpha} = \tan^2 \alpha + \cot^2 \alpha \quad (16)$$

$$\tan \alpha \cdot \cos \alpha = \sin \alpha \quad (1)$$

$$\frac{\sin \alpha}{\sqrt{1 - \sin^2 \alpha}} = \tan \alpha \quad (3)$$

$$\frac{\sin^2 \alpha}{1 + \cos \alpha} + \frac{\sin^2 \alpha}{1 - \cos \alpha} = 2 \quad (5)$$

$$\frac{\cos(90^\circ - \alpha)}{\cos \alpha} = \tan \alpha \quad (7)$$

$$\sqrt{1 + \tan^2 \alpha} \cdot \sqrt{1 - \cos^2 \alpha} = \tan \alpha \quad (9)$$

$$\frac{\sin(90^\circ - \alpha) - \cos^3 \alpha}{\sin^3 \alpha} = \cot \alpha \quad (11)$$

$$\frac{\sin \alpha \cdot \cos \alpha}{1 - \cos^2 \alpha} = \cot \alpha \quad (13)$$

$$\tan^2 \alpha - \sin^2 \alpha = \tan^2 \alpha \sin^2 \alpha \quad (15)$$

הוכחות מתקדמות:

$$(17) \quad \frac{1 + \cos \alpha}{1 - \cos \alpha} + \frac{1 - \cos \alpha}{1 + \cos \alpha} = 2 + 4 \cot^2 \alpha \quad \text{הוכח את הזהות הבאה:}$$

$$(18) \quad \frac{1 + \tan \alpha}{1 - \tan \alpha} + \frac{1 - \tan \alpha}{1 + \tan \alpha} = \frac{2}{\cos^2 \alpha - \sin^2 \alpha} \quad \text{הוכח את הזהות הבאה:}$$

$$(19) \quad (\cot \alpha - \tan \alpha)(\cot \alpha + \tan \alpha) = (1 + \cot^2 \alpha)(1 + \tan^2 \alpha) \quad \text{הוכח את הזהות הבאה:}$$

$$(20) \quad \frac{\sin^4 \alpha + \cos^2 \alpha - \sin^2 \alpha}{\cos^4 \alpha + \sin^2 \alpha - \cos^2 \alpha} = \cot^4 \alpha \quad \text{הוכח את הזהות הבאה:}$$

$$(21) \quad 1 - \sin^2 \alpha (1 + \cos^2 \alpha) = \cos^4 \alpha \quad \text{הוכח את הזהות הבאה:}$$

$$(22) \quad \left(\sqrt{\frac{1 + \cos \alpha}{1 - \cos \alpha}} + \sqrt{\frac{1 - \cos \alpha}{1 + \cos \alpha}} \right)^2 = 4 + 4 \cot^2 \alpha \quad \text{הוכח את הזהות הבאה:}$$

$$(23) \quad \sin^2 \alpha \cos^2 \beta - \sin^2 \beta \cos^2 \alpha = \sin^2 \alpha - \sin^2 \beta \quad \text{הוכח את הזהות הבאה:}$$

$$(24) \quad \frac{\tan \alpha + \tan \beta}{\cot \alpha + \cot \beta} = \tan \alpha \tan \beta \quad \text{הוכח את הזהות הבאה:}$$

הבעת ביטויים וחישובים באמצעות זהויות יסוד:

$$(25) \quad \text{נתון כי: } \sin \alpha + \cos \alpha = k$$

הבע באמצעות k את ערכי הביטויים הבאים:

א. $\sin \alpha \cdot \cos \alpha$

ב. $\sin \alpha - \cos \alpha$

ג. $\tan \alpha + \cot \alpha$

ד. $\sin^3 \alpha + \cos^3 \alpha$

$$(26) \quad \text{נתון כי: } \sin \alpha = \frac{\sqrt{5}}{5}$$

מבלי למצוא את α חשב את: $\tan^2 \alpha - 2 \cot^2 \alpha$

(27) נתון כי: $\tan \alpha = \sqrt{7}$.

מבלי למצוא את α חשב את: $\frac{\sqrt{7} \sin \alpha + 6 \cos \alpha}{\sqrt{28} \sin \alpha - \cos \alpha}$.

(28) חשב את ערך המכפלה הבאה: $\tan 1^\circ \cdot \tan 2^\circ \cdot \tan 3^\circ \cdot \dots \cdot \tan 88^\circ \cdot \tan 89^\circ$.

תשובות סופיות:

- (1) שאלת הוכחה.
- (2) שאלת הוכחה.
- (3) שאלת הוכחה.
- (4) שאלת הוכחה.
- (5) שאלת הוכחה.
- (6) שאלת הוכחה.
- (7) שאלת הוכחה.
- (8) שאלת הוכחה.
- (9) שאלת הוכחה.
- (10) שאלת הוכחה.
- (11) שאלת הוכחה.
- (12) שאלת הוכחה.
- (13) שאלת הוכחה.
- (14) שאלת הוכחה.
- (15) שאלת הוכחה.
- (16) שאלת הוכחה.
- (17) שאלת הוכחה.
- (18) שאלת הוכחה.
- (19) שאלת הוכחה.
- (20) שאלת הוכחה.
- (21) שאלת הוכחה.
- (22) שאלת הוכחה.
- (23) שאלת הוכחה.
- (24) שאלת הוכחה.

$$(25) \quad \text{א. } \frac{k^2 - 1}{2} \quad \text{ב. } \pm\sqrt{2 - k^2} \quad \text{ג. } \frac{2}{k^2 - 1} \quad \text{ד. } \frac{k}{2}(3 - k^2)$$

$$(26) \quad -7.75$$

$$(27) \quad 1$$

$$(28) \quad 1$$

ערכי הפונקציות הטריגונומטריות עבור זוויות מיוחדות:

סיכום כללי:

$\alpha = 90^\circ$	$\alpha = 60^\circ$	$\alpha = 45^\circ$	$\alpha = 30^\circ$	$\alpha = 0^\circ$	
1	$\frac{\sqrt{3}}{2}$	$\frac{\sqrt{2}}{2}$	$\frac{1}{2}$	0	$\sin \alpha$
0	$\frac{1}{2}$	$\frac{\sqrt{2}}{2}$	$\frac{\sqrt{3}}{2}$	1	$\cos \alpha$
ϕ	$\sqrt{3}$	1	$\frac{\sqrt{3}}{3}$	0	$\tan \alpha$
0	$\frac{\sqrt{3}}{3}$	1	$\sqrt{3}$	ϕ	$\cot \alpha$

הערות:

- ערכי הפונקציות הטריגונומטריות עבור זוויות של 0° ו- 90° תלמדנה בהמשך אך ניתנו כעת כדי להשלים את תמונת ערכי הזוויות.
- ניתן לזכור את הטבלה ע"י כתיבה של שורת הסינוס לפי: $\frac{\sqrt{4}}{2}, \frac{\sqrt{3}}{2}, \frac{\sqrt{2}}{2}, \frac{\sqrt{1}}{2}, \frac{\sqrt{0}}{2}$ אשר נותנים את הערכים של השורה הראשונה לאחר פישוט קל. עבור שורת ה- $\cos \alpha$ יש להפוך את הערכים ולבסוף יש לחלק כל זוג ביטויים כדי לכתוב את ערכי $\tan \alpha$ ולסובב עבור ערכי $\cot \alpha$.

שאלות:

חשב ללא מחשבון את ערכי הביטויים הבאים תוך שימוש בערכי הפונקציות הטריגונומטריות של זוויות מיוחדות:

$$1) \sin 30^\circ + \cos 30^\circ$$

$$2) \frac{\sin 30^\circ \cdot \cos 30^\circ}{\sin 60^\circ}$$

$$3) \tan 45^\circ + \frac{\sin 45^\circ}{\cos 45^\circ}$$

$$\cdot \frac{1 + \cos 60^\circ}{2 \sin 60^\circ} \quad (4)$$

$$\cdot \cos^2 45^\circ + \sin^2 30^\circ \quad (5)$$

$$\cdot \frac{\tan^2 60^\circ \cdot \cos^2 30^\circ}{\cos^2 60^\circ} \quad (6)$$

$$\cdot \frac{\tan 30^\circ \cdot \cot 60^\circ - \cot 45^\circ \cdot \tan 45^\circ}{4 \left(\sin^2 60^\circ - \frac{1}{4} \right)} \quad (7)$$

$$\cdot \frac{27 \cot^4 60^\circ}{\sin 30^\circ \cdot \cos 45^\circ \cdot \tan 60^\circ} \quad (8)$$

תשובות סופיות:

$$\frac{1 + \sqrt{3}}{2} \quad (1)$$

$$\frac{1}{2} \quad (2)$$

$$2 \quad (3)$$

$$\frac{3}{2\sqrt{3}} \quad (4)$$

$$\frac{3}{4} \quad (5)$$

$$9 \quad (6)$$

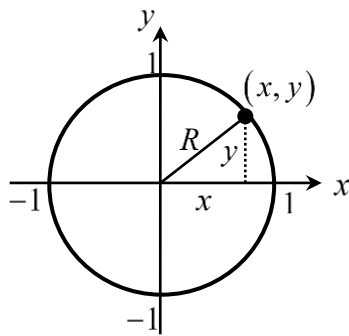
$$-\frac{1}{3} \quad (7)$$

$$2\sqrt{6} \quad (8)$$

מעגל היחידה – הגדרה וזהויות:

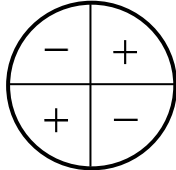
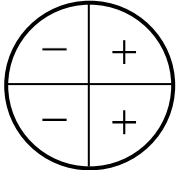
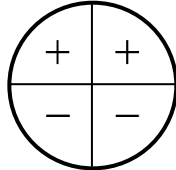
סיכום כללי:

הגדרת מעגל היחידה:



- מעגל קנוני שרדיוסו 1 מוגדר להיות המעגל הטריגונומטרי.
- הנקודות $(0, -1)$, $(-1, 0)$, $(0, 1)$, $(1, 0)$ מתאימות לזוויות של 270° , 180° , 90° , 0° .

הזהויות של המעגל הטריגונומטרי:

טנגנס	קוסינוס	סינוס	רביע
$\tan(180^\circ - \alpha) = -\tan \alpha$	$\cos(180^\circ - \alpha) = -\cos \alpha$	$\sin(180^\circ - \alpha) = \sin \alpha$	II
$\tan(180^\circ + \alpha) = \tan \alpha$	$\cos(180^\circ + \alpha) = -\cos \alpha$	$\sin(180^\circ + \alpha) = -\sin \alpha$	III
$\tan(-\alpha) = -\tan \alpha$	$\cos(-\alpha) = \cos \alpha$	$\sin(-\alpha) = -\sin \alpha$	VI
			סימנים

זהויות עבור זווית הגדולות מ-360 מעלות:

ניתן להוסיף או להוריד 'סיבובים' שלמים לזווית לפי:

$$\boxed{\sin(\alpha + 360^\circ k) = \sin \alpha} \quad \boxed{\tan(\alpha + 180^\circ k) = \tan \alpha}$$

$$\boxed{\cos(\alpha + 360^\circ k) = \cos \alpha} \quad \boxed{\cot(\alpha + 180^\circ k) = \cot \alpha}$$

כאשר k הוא מספר שלם מציין את מספר הסיבובים.

שאלות:

(1) העבר את הביטויים הבאים לביטויים עם זווית ברביע הראשון. אין צורך לחשב את ערך הביטוי:

א. $\sin 120^\circ$	ב. $\cos 150^\circ$
ג. $\tan 160^\circ$	ד. $\cot 130^\circ$
ה. $\sin 215^\circ$	ו. $\cos 245^\circ$
ז. $\tan 230^\circ$	ח. $\cot 200^\circ$
ט. $\sin 300^\circ$	י. $\cos 310^\circ$

(2) חשב את ערכי הביטויים הבאים ע"י שימוש בזהויות המעגל הטריגונומטרי:

א. $\sin 150^\circ$	ב. $\cos 210^\circ$	ג. $\tan 120^\circ$
ד. $\sin 330^\circ$	ה. $\tan 225^\circ$	ו. $\sin 315^\circ$
ז. $\cos 120^\circ$	ח. $\tan(-30^\circ)$	ט. $\cos(-45^\circ)$
י. $\sin 510^\circ$	יא. $\cos 930^\circ$	יב. $\tan(-225^\circ)$

(3) חשב את ערכי הביטויים הבאים ללא שימוש במחשבון:

$$\begin{aligned} \text{א. } & (\sin 240^\circ \cdot \tan 150^\circ + \cos(-60^\circ))^2 \\ \text{ב. } & 8\sin^2 150^\circ \cdot \tan 135^\circ - 2 \cdot \sin 135^\circ \cdot \cos(-135^\circ) \\ \text{ג. } & \frac{\cot 225^\circ}{\sin(-225^\circ) - \cos 135^\circ} + \tan^2 210^\circ \end{aligned}$$

(4) הוכח כי אם α, β, γ הן זוויות במשולש, אז מתקיים:

$$\begin{aligned} \text{א. } & \sin(\alpha + \beta) = \sin \gamma \\ \text{ב. } & \sin\left(\frac{\gamma + \beta}{2}\right) = \cos \frac{\alpha}{2} \end{aligned}$$

תשובות סופיות:

- | | | | |
|--------------------------|---------------------------------------|--------------------------|-------------------------|
| $-\cot 50^\circ$.ד | $-\tan 20^\circ$.ג | $-\cos 30^\circ$.ב | $\sin 60^\circ$.א (1 |
| $\cot 20^\circ$.ח | $\tan 50^\circ$.ז | $-\cos 65^\circ$.ו | $-\sin 35^\circ$.ה |
| | | $\cos 50^\circ$.י | $-\sin 60^\circ$.ט |
| $-\frac{1}{2}$.ד | $-\sqrt{3}$.ג | $-\frac{\sqrt{3}}{2}$.ב | $\frac{1}{2}$.א (2 |
| $-\frac{\sqrt{3}}{3}$.ח | $-\frac{1}{2}$.ז | $-\frac{\sqrt{2}}{2}$.ו | 1 .ה |
| -1 .יב | $-\frac{\sqrt{3}}{2}$.יא | $\frac{1}{2}$.י | $\frac{\sqrt{2}}{2}$.ט |
| | $\frac{1}{\sqrt{2}} + \frac{1}{3}$.ג | -1 .ב | 1 .א (3 |
- (4) שאלת הוכחה.

סכום והפרש זוויות:

סיכום כללי:

סכום והפרש עבור $\sin(\alpha \pm \beta)$ ו- $\cos(\alpha \pm \beta)$ יחושב לפי:

$$\begin{aligned} \sin(\alpha \pm \beta) &= \sin \alpha \cos \beta \pm \sin \beta \cos \alpha \\ \cos(\alpha \pm \beta) &= \cos \alpha \cos \beta \mp \sin \alpha \sin \beta \end{aligned}$$

סכום והפרש עבור $\tan(\alpha \pm \beta)$ ו- $\cot(\alpha \pm \beta)$

$$\begin{aligned} \tan(\alpha \pm \beta) &= \frac{\tan \alpha \pm \tan \beta}{1 \mp \tan \alpha \tan \beta} \\ \cot(\alpha \pm \beta) &= \frac{\cot \alpha \cot \beta \mp 1}{\cot \beta \pm \cot \alpha} \end{aligned}$$

הערה:

בסרטון התיאוריה אין התייחסות מיוחדת לזהויות עבור $\tan(\alpha \pm \beta)$ ו- $\cot(\alpha \pm \beta)$.

שאלות:

1) חשב את ערכי הביטויים הבאים תוך שימוש בזהויות של סכום והפרש זוויות וללא שימוש במחשבון:

- | | | |
|-----------------------|---------------------|-----------------------|
| א. $\sin 75^\circ$ | ב. $\sin 15^\circ$ | ג. $\sin 105^\circ$ |
| ד. $\sin(-15^\circ)$ | ה. $\cos 75^\circ$ | ו. $\cos 15^\circ$ |
| ז. $\cos(-105^\circ)$ | ח. $\cos 165^\circ$ | ט. $\cos(-195^\circ)$ |

2) חשב ללא שימוש במחשבון את ערכי הביטויים הבאים:

- א. $\sin 65^\circ \cos 25^\circ + \sin 25^\circ \cos 65^\circ$
 ב. $5 \cos 50^\circ \cos 20^\circ + 5 \sin 50^\circ \sin 20^\circ$

(3) הוכח את הזהויות הבאות :

א. $\sin(60^\circ + \alpha) + \sin(60^\circ - \alpha) = \sqrt{3} \cos \alpha$

ב. $\cos(45^\circ - \alpha) - \cos(45^\circ + \alpha) = \sqrt{2} \sin \alpha$

ג. $\sin(\alpha + \beta) \cdot \sin(\alpha - \beta) = \sin^2 \alpha - \sin^2 \beta$

ד. $\tan \alpha - \tan \beta = \frac{\sin(\alpha - \beta)}{\cos \alpha \cos \beta}$

(4) נתון: $\cos \alpha = \frac{4}{5}$, $\cos \beta = \frac{8}{17}$ ו- α, β זוויות חדות.

מבלי למצוא את הערכים של α ו- β חשב:

א. $\sin(\alpha + \beta)$

ב. $\cos(\alpha + \beta)$

ג. $\tan(\alpha + \beta)$

(5) הוכח את הזהות: $\sin(\alpha + \beta) - \sin(\alpha - \beta) = 2 \sin \beta \cos \alpha$

(6) הוכח את הזהות: $(\sin \alpha + \cos \alpha)(\sin 2\alpha + \cos 2\alpha) = \sin 3\alpha + \cos \alpha$

(7) הוכח את הזהות: $\tan 7\alpha - \tan 5\alpha - \tan 2\alpha = \tan 7\alpha \tan 5\alpha \tan 2\alpha$

(8) הוכח את הזהות: $\frac{\sin(\alpha - \beta)}{\cos(\alpha + \beta)} = \frac{\tan \alpha - \tan \beta}{1 - \tan \alpha \tan \beta}$

(9) הוכח את הזהות: $\cot \alpha - \cot \beta = \frac{\sin(\beta - \alpha)}{\sin \alpha \sin \beta}$

(10) הוכח את הזהות הבאה :

$\sin \alpha \cos \beta \cos \gamma + \cos \alpha \sin \beta \cos \gamma + \cos \alpha \cos \beta \sin \gamma - \sin \alpha \sin \beta \sin \gamma = \sin(\alpha + \beta + \gamma)$

(11) הוכח כי מתקיים: $\sin 65^\circ \cos 25^\circ + \sin 25^\circ \cos 65^\circ = 1$.

(12) הוכח כי מתקיים: $\tan 18^\circ \tan 27^\circ + \tan 18^\circ + \tan 27^\circ = 1$.

(13) נתון כי: $\sin 76^\circ = m$. הבע את $\sin 31^\circ$ באמצעות m .

(14) הזוויות α ו- β הן זוויות חדות.

נתון כי: $\tan \beta = \frac{(2k-1)\sqrt{3}}{3}$ ו- $\tan \alpha = \frac{(2-k)\sqrt{3}}{3k}$.

הראה כי מתקיים: $\alpha + \beta = 60^\circ$.

(15) היעזר בנוסחה: $\tan(\alpha \pm \beta) = \frac{\tan \alpha \pm \tan \beta}{1 \mp \tan \alpha \tan \beta}$ ומצא את $\tan x$ ו- $\tan y$.

אם ידוע כי: $\tan(x+y) = -3$ ו- $\tan(x-y) = \frac{1}{3}$. הבחן בין שני מקרים.

תשובות סופיות:

$$(1) \quad \begin{array}{llll} \text{א. } \frac{\sqrt{6}+\sqrt{2}}{4} & \text{ב. } \frac{\sqrt{6}-\sqrt{2}}{4} & \text{ג. } \frac{\sqrt{6}+\sqrt{2}}{4} & \text{ד. } \frac{\sqrt{2}-\sqrt{6}}{4} \\ \text{ו. } \frac{\sqrt{6}+\sqrt{2}}{4} & \text{ז. } \frac{\sqrt{2}-\sqrt{6}}{4} & \text{ח. } -\frac{\sqrt{6}+\sqrt{2}}{4} & \text{ט. } -\frac{\sqrt{6}+\sqrt{2}}{4} \\ \text{י. } \frac{\sqrt{6}-\sqrt{2}}{4} & \text{יא. } \frac{\sqrt{2}-\sqrt{6}}{4} & \text{יב. } \frac{\sqrt{6}+\sqrt{2}}{4} & \text{יג. } \frac{\sqrt{6}-\sqrt{2}}{4} \end{array}$$

$$(2) \quad \begin{array}{ll} \text{א. } 1 & \text{ב. } \frac{5\sqrt{3}}{2} \end{array}$$

(3) שאלת הוכחה.

$$(4) \quad \begin{array}{ll} \text{א. } \frac{84}{85} & \text{ב. } -\frac{13}{85} \\ \text{ג. } -6\frac{6}{13} & \end{array}$$

(5) שאלת הוכחה.

(6) שאלת הוכחה.

(7) שאלת הוכחה.

(8) שאלת הוכחה.

(9) שאלת הוכחה.

(10) שאלת הוכחה.

(11) שאלת הוכחה.

(12) שאלת הוכחה.

(13) שאלת הוכחה.

$$(14) \quad \frac{\sqrt{2}}{2} (m - \sqrt{1-m^2})$$

(15) שאלת הוכחה.

$$(16) \quad 1 \text{ ו-} 2 \text{ או } -\frac{1}{2} \text{ ו-} -1$$

זווית כפולה:

סיכום כללי:

נפתח זווית כפולה לפי הצורות הבאות:

$$\begin{aligned} \sin 2\alpha &= 2\sin \alpha \cos \alpha \\ \cos 2\alpha &= \cos^2 \alpha - \sin^2 \alpha = 2\cos^2 \alpha - 1 = 1 - 2\sin^2 \alpha \end{aligned}$$

שאלות:

(1) הוכח את הזהויות הבאות:

- א. $4\sin \alpha \cos \alpha \cos 2\alpha = \sin 4\alpha$
 ב. $(\sin \alpha - \cos \alpha)^2 = 1 - \sin 2\alpha$
 ג. $(\sin 3\alpha - \cos 3\alpha)^2 = 1 - \sin 6\alpha$
 ד. $\cos^4 \alpha - \sin^4 \alpha = \cos 2\alpha$
 ה. $\frac{\cos \alpha}{\sin \alpha} - \frac{\sin \alpha}{\cos \alpha} = 2 \cot 2\alpha$
 ו. $\frac{\cos 2\alpha - 2\sin^2 \alpha \cos 2\alpha}{\sin 4\alpha} = \frac{1}{2} \cot 2\alpha$
 ז. $\cos^2 2\alpha = 4\sin^4 \alpha - 4\sin^2 \alpha + 1$
 ח. $\cos 4\alpha = 8\cos^4 \alpha - 8\cos^2 \alpha + 1$

(2) הוכח את הזהות: $\sin^3 \alpha = \frac{3\sin \alpha - \sin 3\alpha}{4}$ ע"י כתיבה של $\sin 3\alpha$

לפי: $\sin(\alpha + 2\alpha)$ ושימוש בזהויות שנלמדו.

(3) הוכח את הזהות: $\cos^3 \alpha = \frac{3\cos \alpha + \cos 3\alpha}{4}$ ע"י כתיבה של $\cos 3\alpha$

לפי: $\cos(\alpha + 2\alpha)$ ושימוש בזהויות שנלמדו.

(4) נתונה זווית חדה α המקיימת: $\sin \alpha = \frac{40}{41}$. מבלי להיעזר במחשבון חשב:

א. $\cos \alpha$

ב. $\tan \alpha$

ג. $\sin 2\alpha$

ד. $\cos 2\alpha$

ה. $\tan 2\alpha$

(5) נתונה זווית חדה α המקיימת: $\tan \alpha = \frac{5}{12}$. מבלי להיעזר במחשבון חשב:

א. $\sin \alpha$

ב. $\cos \alpha$

ג. $\sin 2\alpha$

ד. $\cos 2\alpha$

(6) נתונה זווית α ברביע הראשון וזווית β ברביע השני המקיימות: $\sin \alpha = \frac{5}{13}$

ו- $\cos \beta = -0.8$. מבלי למצוא את α ו- β חשב את הביטויים הבאים:

א. $\sin(\alpha + \beta)$

ב. $\cos(\alpha + \beta)$

ג. $\sin(2\alpha + \beta)$

(7) נתון כי $\sin \alpha + \cos \alpha = 1.2$ עבור $0^\circ < \alpha < 90^\circ$. חשב את $\sin 2\alpha$.

(8) פשט את הביטוי הבא: $\sqrt{\frac{1 + \cos 8\alpha}{2}}$

(9) ללא שימוש במחשבון, חשב את ערך הביטוי הבא: $\frac{\sin 16^\circ \cos 16^\circ}{3 - 6 \sin^2 29^\circ}$

(10) ללא שימוש במחשבון, חשב את ערך הביטוי הבא: $\frac{\sin^2 78^\circ - \cos^2 78^\circ}{\sin 66^\circ}$

(11) ללא שימוש במחשבון, חשב את ערך הביטוי הבא: $\frac{5 \tan 15^\circ (1 - 2 \cos^2 15^\circ)}{1 - \tan^2 15^\circ}$

תשובות סופיות:

(1) שאלת הוכחה.

(2) שאלת הוכחה.

(3) שאלת הוכחה.

$$(4) \quad \begin{array}{ll} \text{א. } \frac{9}{41} & \text{ב. } 4\frac{4}{9} \\ \text{ג. } \frac{720}{1681} & \text{ד. } -\frac{1519}{1681} \end{array}$$

$$\text{ה. } -\frac{720}{1519}$$

$$(5) \quad \begin{array}{ll} \text{א. } \frac{5}{13} & \text{ב. } \frac{12}{13} \\ \text{ג. } \frac{120}{169} & \text{ד. } \frac{119}{169} \end{array}$$

$$(6) \quad \begin{array}{ll} \text{א. } \frac{16}{65} & \text{ב. } -\frac{63}{65} \\ \text{ג. } -\frac{123}{845} & \end{array}$$

(7) .0.44

(8) $\cos 4\alpha$.

(9) $\frac{1}{6}$.

(10) .1

(11) .-1.25

סכום והפרש פונקציות טריגונומטריות:

סיכום כללי:

להלן נוסחאות הסכום וההפרש של פונקציות טריגונומטריות:

$$\begin{aligned} \sin \alpha + \sin \beta &= 2 \sin \frac{\alpha + \beta}{2} \cos \frac{\alpha - \beta}{2} \\ \sin \alpha - \sin \beta &= 2 \sin \frac{\alpha - \beta}{2} \cos \frac{\alpha + \beta}{2} \\ \cos \alpha + \cos \beta &= 2 \cos \frac{\alpha + \beta}{2} \cos \frac{\alpha - \beta}{2} \\ \cos \alpha - \cos \beta &= -2 \sin \frac{\alpha + \beta}{2} \sin \frac{\alpha - \beta}{2} \end{aligned}$$

הערה:

בסרטון התיאוריה אין התייחסות לזהויות הסכום וההפרש של טנגנס ושל קוטנגנס עקב חוסר השימוש בהן בפתרון שאלות.

שאלות:

- (1) הוכח את הזהות הבאה: $\sin 5\alpha + \sin 3\alpha = 2 \sin 4\alpha \cos \alpha$
- (2) הוכח את הזהות הבאה: $\sin 7\alpha - \sin 2\alpha = 2 \sin 2.5\alpha \cos 4.5\alpha$
- (3) הוכח את הזהות הבאה: $\cos \alpha + \cos 5\alpha = 2 \sin 2\alpha \cos 3\alpha$
- (4) הוכח את הזהות הבאה: $\cos 5\alpha - \cos 2\alpha = -2 \sin 3.5\alpha \cos 1.5\alpha$
- (5) הוכח את הזהות הבאה: $\sin 3\alpha = 2 \sin 2\alpha \cos \alpha - \sin \alpha$
- (6) הוכח את הזהות הבאה: $\sin^2 \alpha - \sin^2 \beta = \sin(\alpha + \beta) \sin(\alpha - \beta)$
- (7) הוכח את הזהות הבאה: $\sin(2\alpha + \beta) - 2 \cos(\alpha + \beta) \sin \alpha = \sin \beta$
- (8) הוכח את הזהות הבאה: $\frac{\sin 5\alpha - \sin \alpha}{\sin 4\alpha - \sin 2\alpha} = 2 \cos \alpha$

$$(9) \quad \frac{\sin 7\alpha - \sin 3\alpha}{\cos 4\alpha + \cos 6\alpha} = 2 \sin \alpha \quad \text{הוכח את הזהות הבאה:}$$

$$(10) \quad \frac{\sin \alpha + \sin 2\alpha + \sin 3\alpha}{\cos \alpha + \cos 2\alpha + \cos 3\alpha} = \tan 2\alpha \quad \text{הוכח את הזהות הבאה:}$$

$$(11) \quad \tan \alpha + \tan 3\alpha = \frac{2 \sin 4\alpha}{\cos 4\alpha + \cos 2\alpha} \quad \text{הוכח את הזהות הבאה:}$$

$$(12) \quad \text{פשט את הביטוי: } \frac{1 + \cos \alpha + \cos 2\alpha + \cos 3\alpha}{\cos \alpha + 2 \cos^2 \alpha - 1} \quad \text{ומצא את ערכו מבלי להיעזר}$$

$$\text{במחשבון אם ידוע כי } \sin \frac{\alpha}{2} = \frac{5}{6}$$

$$(13) \quad \text{נתון כי } \alpha \text{ ו- } \beta \text{ הן זוויות חדות המקיימות: } \sin \alpha = \frac{2mn}{m^2 + n^2} \text{ ו- } \sin \beta = \frac{n^2 - m^2}{m^2 + n^2}$$

$$\text{הראה כי: } \alpha + \beta = 90^\circ$$

$$(14) \quad \text{היעזר במעבר מכפל לסכום או הפרש}$$

$$\text{והוכח כי: } \cos 6\alpha \cos 2\alpha - \cos 5\alpha \cos \alpha = -\sin 7\alpha \sin \alpha$$

$$(15) \quad \text{היעזר במעבר מכפל לסכום או הפרש}$$

$$\text{והוכח כי: } \sin 4\alpha \sin 2\alpha - \sin 5\alpha \sin \alpha + \cos 3\alpha \cos \alpha = \cos 2\alpha$$

$$(16) \quad \text{חשב ללא מחשבון את ערך הביטוי הבא: } \sin 52.5^\circ \cdot \sin 7.5^\circ$$

$$(17) \quad \text{חשב ללא מחשבון את ערך הביטוי הבא: } \frac{\sin 35^\circ \sin 55^\circ}{\cos 40^\circ \cos 20^\circ} - 0.25$$

$$(18) \quad \text{חשב ללא מחשבון את ערך הביטוי הבא: } \cos 20^\circ \cos 40^\circ \cos 80^\circ$$

$$(19) \quad \text{חשב ללא מחשבון את ערך הביטוי הבא: } \sin 5^\circ \cdot \sin 25^\circ \cdot \sin 35^\circ \cdot \sin 55^\circ \cdot \sin 65^\circ \cdot \sin 85^\circ$$

תשובות סופיות:

(1) שאלת הוכחה.

(2) שאלת הוכחה.

(3) שאלת הוכחה.

(4) שאלת הוכחה.

(5) שאלת הוכחה.

(6) שאלת הוכחה.

(7) שאלת הוכחה.

(8) שאלת הוכחה.

(9) שאלת הוכחה.

(10) שאלת הוכחה.

(11) שאלת הוכחה.

(12) $-\frac{7}{9}$.

(13) שאלת הוכחה.

(14) שאלת הוכחה.

(15) שאלת הוכחה.

(16) $\frac{\sqrt{2}-1}{4}$.

(17) .1

(18) $\frac{1}{8}$.

(19) $\frac{1}{64}$.

מכפלת פונקציות:

סיכום כללי:

להלן נוסחאות המעבר מסכום למכפלה וממכפלה לסכום:

$$\left\{ \begin{array}{l} \sin \alpha + \sin \beta = 2 \sin \frac{\alpha + \beta}{2} \cos \frac{\alpha - \beta}{2} \\ \sin \alpha - \sin \beta = 2 \sin \frac{\alpha - \beta}{2} \cos \frac{\alpha + \beta}{2} \\ \cos \alpha + \cos \beta = 2 \cos \frac{\alpha + \beta}{2} \cos \frac{\alpha - \beta}{2} \\ \cos \alpha - \cos \beta = -2 \sin \frac{\alpha + \beta}{2} \sin \frac{\alpha - \beta}{2} \end{array} \right. \quad \left\{ \begin{array}{l} \sin \alpha \cos \beta = \frac{1}{2} [\sin(\alpha + \beta) + \sin(\alpha - \beta)] \\ \cos \alpha \cos \beta = \frac{1}{2} [\cos(\alpha + \beta) + \cos(\alpha - \beta)] \\ \sin \alpha \sin \beta = \frac{1}{2} [\cos(\alpha - \beta) - \cos(\alpha + \beta)] \end{array} \right.$$

שאלות:

- (1) הוכח את הזהות הבאה: $\sin 7\alpha \cos \alpha = \frac{1}{2}(\sin 8\alpha + \sin 6\alpha)$
- (2) הוכח את הזהות הבאה: $\cos 11\alpha \sin 3\alpha = \frac{1}{2}(\sin 14\alpha - \sin 8\alpha)$
- (3) הוכח את הזהות הבאה: $\cos 4\alpha \cos 10\alpha = \frac{1}{2}(\cos 6\alpha + \cos 14\alpha)$
- (4) הוכח את הזהות הבאה: $\sin 3\alpha \sin 7\alpha = \frac{1}{2}(\cos 4\alpha - \cos 10\alpha)$
- (5) הוכח את הזהות הבאה: $2 \sin 7\alpha \sin 2\alpha + \cos 9\alpha = \cos 5\alpha$
- (6) הוכח את הזהות הבאה: $\sin 7\alpha \cos 4\alpha - \sin 4\alpha \cos \alpha = \sin 3\alpha \cos 8\alpha$
- (7) הוכח את הזהות הבאה: $\sin \alpha \sin 3\alpha = \cos 2\alpha - \cos 3\alpha \cos \alpha$
- (8) הוכח את הזהות הבאה: $2(\sin^2 \beta - \sin^2 \alpha) = \cos 2\alpha - \cos 2\beta$
- (9) הוכח את הזהות הבאה: $\frac{2}{\cot \beta - \tan \alpha} = \tan(\alpha + \beta) - \frac{\sin(\alpha - \beta)}{\cos(\alpha + \beta)}$

תשובות סופיות:

- 1) הוכחה.
- 2) הוכחה.
- 3) הוכחה.
- 4) הוכחה.
- 5) הוכחה.
- 6) הוכחה.
- 7) הוכחה.
- 8) הוכחה.
- 9) הוכחה.

מכינה במתמטיקה להנדסת מכונות

פרק 24 - משוואות טריגונומטריות

תוכן העניינים

1. משוואות טריגונומטריות כלליות 366
2. משוואות הנפתרות עי טכניקה אלגברית 369
3. משוואות הנפתרות על ידי זהויות יסוד 371
4. משוואות הנפתרות על ידי זהויות של מעגל היחידה 373
5. משוואות הנפתרות על ידי חלוקה בקוסינוס 374
6. משוואות הנפתרות על ידי זהויות של סכום והפרש זוויות 375
7. משוואות הנפתרות על ידי זהויות של זווית כפולה 376
8. משוואות מהצורה $a \sin(x) + b \cos(x) = c$ 377
9. משוואות הנפתרות על ידי זהויות של סכום והפרש פונקציות 378
10. משוואות עם תחום נתון 380
11. משוואות עם זוויות ברדיאנים 381
12. אי שוויונים טריגונומטריים 385

משוואות טריגונומטריות כלליות:

סיכום כללי:

פתרון כללי של משוואות טריגונומטריות (במעלות):

להלן נוסחאות הפתרון של המשוואות הטריגונומטריות היסודיות כאשר x הוא משתנה ו- α היא זווית נתונה/ידועה:

המשוואה	הפתרון
$\sin x = \sin \alpha$	$x_1 = \alpha + 360^\circ k$, $x_2 = 180^\circ - \alpha + 360^\circ k$
$\cos x = \cos \alpha$	$x_{1,2} = \pm \alpha + 360^\circ k$
$\tan x = \tan \alpha$	$x = \alpha + 180^\circ k$
$\cot x = \cot \alpha$	$x = \alpha + 180^\circ k$

כאשר k מספר שלם.

שאלות:

(1) כתוב את הפתרון הכללי של המשוואות הבאות (פונקציית הסינוס):

$$\text{א. } \sin x = \frac{1}{2} \quad \text{ב. } \sin x = \frac{\sqrt{2}}{2} \quad \text{ג. } \sin x = -\frac{\sqrt{3}}{2} \quad \text{ד. } \sin x = -\frac{1}{2}$$

(2) כתוב את הפתרון הכללי של המשוואות הבאות (פונקציית הקוסינוס):

$$\text{א. } \cos x = \frac{1}{2} \quad \text{ב. } \cos x = -\frac{\sqrt{3}}{2}$$

(3) כתוב את הפתרון הכללי של המשוואות הבאות (פונקציית הטנגנס):

$$\text{א. } \tan x = \frac{1}{\sqrt{3}} \quad \text{ב. } \tan x = -1$$

(4) כתוב את הפתרון הכללי של המשוואות הבאות (זווית כללית):

א. $\sin x = 0.7$ ב. $\cos x = -0.6$ ג. $\tan x = 5$

(5) כתוב את הפתרון הכללי של המשוואות הבאות (משוואות לא מסודרות):

א. $\sin 3x = \frac{1}{2}$ ב. $2 \cos 2x = -\sqrt{3}$

ג. $\tan 5x = -1$ ד. $3 \sin 2x = 2$

ה. $3 \cos 3x = 1$ ו. $2 \tan 4x = 1$

(6) כתוב את הפתרון הכללי של המשוואות הבאות (ארגומנט מורכב):

א. $\sin(2x + 30^\circ) = -\frac{\sqrt{3}}{2}$ ב. $\cos(75^\circ - 3x) = \frac{\sqrt{2}}{2}$ ג. $\tan(50^\circ - x) = 1.3$

(7) כתוב את הפתרון הכללי של המשוואות הבאות (פונקציות עם ארגומנטים שונים):

א. $\sin x = \sin 3x$ ב. $\sin 2x = \sin(x + 30^\circ)$

ג. $\sin x = \sin(120^\circ - x)$ ד. $\cos x = \cos 3x$

ה. $\cos x = \cos(40^\circ - x)$ ו. $\tan x = \tan 3x$

ז. $\tan 2x = \tan(60^\circ - x)$

(8) כתוב את הפתרון הכללי של המשוואות הבאות (משוואות מיוחדות):

א. $\sin x = 0$ ב. $\sin x = 1$

ג. $\sin x = -1$ ד. $\cos x = 0$

ה. $\cos x = 1$ ו. $\cos x = -1$

ז. $\tan x = 0$ ח. $\tan x = 1$

תשובות סופיות:

- (1) א. $x_1 = 30^\circ + 360^\circ k$, $x_2 = 150^\circ + 360^\circ k$ ב. $x_1 = 45^\circ + 360^\circ k$, $x_2 = 135^\circ + 360^\circ k$
- ג. $x_1 = -60^\circ + 360^\circ k$, $x_2 = 240^\circ + 360^\circ k$ ד. $x_1 = -30^\circ + 360^\circ k$, $x_2 = 210^\circ + 360^\circ k$
- (2) א. $x_{1,2} = \pm 60^\circ + 360^\circ k$ ב. $x_{1,2} = \pm 150^\circ + 360^\circ k$
- (3) א. $x = 30^\circ + 180^\circ k$ ב. $x = 135^\circ + 180^\circ k$
- (4) א. $x_1 = 44.427^\circ + 360^\circ k$, $x_2 = 135.573^\circ + 360^\circ k$ ב. $x_{1,2} = 126.87^\circ + 360^\circ k$
- ג. $x = 78.69^\circ + 180^\circ k$
- (5) א. $x_1 = 10^\circ + 120^\circ k$, $x_2 = 50^\circ + 120^\circ k$ ב. $x_1 = 75^\circ + 180^\circ k$, $x_2 = -75^\circ + 180^\circ k$
- ג. $x = -9^\circ + 36^\circ k$ ד. $x_1 = 20.9^\circ + 180^\circ k$, $x_2 = 69.09^\circ + 180^\circ k$
- ה. $x_{1,2} = \pm 23.5^\circ + 120^\circ k$ ו. $x = 6.64^\circ + 45^\circ k$
- (6) א. $x_1 = 105^\circ + 180^\circ k$, $x_2 = -45^\circ + 180^\circ k$ ב. $x_1 = 10^\circ + 120^\circ k$, $x_2 = 40^\circ + 120^\circ k$
- ג. $x = -2.431^\circ + 180^\circ k$ ד. $x_1 = 180^\circ k$, $x_2 = 45^\circ + 90^\circ k$
- (7) א. $x = 60^\circ + 180^\circ k$ ב. $x = 90^\circ k$
- ה. $x = 20^\circ + 180^\circ k$ ו. $x = 20^\circ + 60^\circ k$
- (8) א. $x = 180^\circ k$ ב. $x = 90^\circ + 360^\circ k$ ג. $x = 180^\circ + 360^\circ k$
- ד. $x = 90^\circ + 180^\circ k$ ה. $x = 360^\circ k$ ו. $x = 180^\circ + 360^\circ k$
- ז. $x = 180^\circ k$ ח. $x = 45^\circ + 180^\circ k$

משוואות הנפתרות ע"י טכניקה אלגברית:

סיכום כללי:

נעזר בטכניקה אלגברית בכדי להביא משוואה מורכבת לצורה של משוואה יסודית.

טכניקות שכיחות:

- הוצאת שורש ריבועי.
- פירוק לגורמים (ע"י הוצאת גורם משותף, ע"י נוסחאות הכפל המקוצר וע"י פירוק טרינום).
- פתרון משוואה ריבועית.

שאלות:

כתוב את הפתרון הכללי של המשוואות הבאות (טכניקה אלגברית):

$$\sin^2 x = \frac{1}{4} \quad (2) \qquad \cos^2 x = \frac{3}{4} \quad (1)$$

$$\sin x \cos 3x = 0 \quad (4) \qquad \tan^2 2x = 3 \quad (3)$$

$$2 \cos^2 x + \sqrt{3} \cos x = 0 \quad (6) \qquad \sin 2x - 2 \sin^2 2x = 0 \quad (5)$$

$$3 \sin^2 x - \sin x = 2 \quad (8) \qquad 2 \sin^2 x - \sin x - 1 = 0 \quad (7)$$

$$\cos^2 x + 2 \cos x = 3 \quad (10) \qquad 6 \sin^2 x - \sin x - 1 = 0 \quad (9)$$

$$\tan^2 x = 4 \tan x - 1 \quad (12) \qquad \tan^2 x - 3 \tan x - 4 = 0 \quad (11)$$

$$\frac{\sin x}{\cos x - 1} = 0 \quad (14) \qquad \cos x - \frac{2}{\cos x} + 1 = 0 \quad (13)$$

$$\frac{\cos 2x}{\tan x + 1} = 0 \quad (15)$$

תשובות סופיות:

$$\cdot x_{1,2} = \pm 30^\circ + 360^\circ k, x_{3,4} = \pm 150^\circ + 360^\circ k \quad (1)$$

$$\cdot x_1 = 30^\circ + 360^\circ k, x_2 = 150^\circ + 360^\circ k, x_3 = 330^\circ + 360^\circ k, x_4 = 210^\circ + 360^\circ k \quad (2)$$

$$\cdot x_1 = 30^\circ + 90^\circ k, x_2 = -30^\circ + 90^\circ k \quad (3)$$

$$\cdot x_1 = 180^\circ k, x_2 = 30^\circ + 60^\circ k \quad (4)$$

$$\cdot x_1 = 90^\circ k, x_2 = 15^\circ + 180^\circ k, x_3 = 75^\circ + 180^\circ k \quad (5)$$

$$\cdot x_1 = 90^\circ + 180^\circ k, x_{2,3} = \pm 150^\circ + 360^\circ k \quad (6)$$

$$\cdot x_1 = 90^\circ + 360^\circ k, x_2 = 210^\circ + 360^\circ k, x_3 = -30^\circ + 360^\circ k \quad (7)$$

$$\cdot x_1 = 90^\circ + 360^\circ k, x_2 = -41.8^\circ + 360^\circ k, x_3 = 221.8^\circ + 360^\circ k \quad (8)$$

$$\cdot x_1 = 30^\circ + 360^\circ k, x_2 = 150^\circ + 360^\circ k, x_3 = -19.4^\circ + 360^\circ k, x_4 = 199.4^\circ + 360^\circ k \quad (9)$$

$$\cdot x = 360^\circ k \quad (10)$$

$$\cdot x_1 = -45^\circ + 180^\circ k, x_2 = 75.964^\circ + 180^\circ k \quad (11)$$

$$\cdot x_1 = 75^\circ + 180^\circ k, x_2 = 15^\circ + 180^\circ k \quad (12)$$

$$\cdot x = 360^\circ k \quad (13)$$

$$\cdot x = 180^\circ + 360^\circ k \quad (14)$$

$$\cdot x = 45^\circ + 90^\circ k, x \neq -45^\circ + 180^\circ k \quad (15)$$

משוואות הנפתרות ע"י זהויות יסוד:

סיכום כללי:

כאשר משוואה מכילה יותר מפונקציה טריגונומטרית אחת, יש תחילה להעביר אותה למשוואה שקולה המכילה פונקציה טריגונומטרית אחת. לאחר מכן ניתן לבצע פעולות אלגבריות בכדי לקבל משוואות יסודיות ולכתוב את הפתרון עבור כל אחת. לשם כך נעזר בזהויות טריגונומטריות.

תזכורת – זהויות היסוד הטריגונומטריות:

$\sin^2 \alpha + \cos^2 \alpha = 1$ $\tan \alpha \cdot \cot \alpha = 1$	$\tan \alpha = \frac{\sin \alpha}{\cos \alpha}$, $\cot \alpha = \frac{\cos \alpha}{\sin \alpha}$	קשרים בין פונקציות
$\sin \alpha = \cos(90^\circ - \alpha)$	$\cos \alpha = \sin(90^\circ - \alpha)$	זוויות משלימות ל- 90°
$\tan \alpha = \cot(90^\circ - \alpha)$	$\cot \alpha = \tan(90^\circ - \alpha)$	
$\tan^2 \alpha + 1 = \frac{1}{\cos^2 \alpha}$	$\cot^2 \alpha + 1 = \frac{1}{\sin^2 \alpha}$	קשרים בין פונקציות

שאלות:

כתוב את הפתרון הכללי של המשוואות הבאות:

$$\sin x = \cos(x + 45^\circ) \quad (2)$$

$$\sin x = \cos x \quad (1)$$

$$2 \cos^2 x = 3 \sin x \quad (4)$$

$$\cos x = \frac{2}{3} \sin^2 x \quad (3)$$

$$\cos^2 x - \sin^2 x = \sin x \quad (6)$$

$$\sin^2 x - \cos x = \frac{1}{4} \quad (5)$$

$$\sin x - \tan x = 0 \quad (8)$$

$$\sin^2 x + 2 \cos^2 x = 1.5 \quad (7)$$

תשובות סופיות:

$$\cdot x = 45^\circ + 180^\circ k \quad (1)$$

$$\cdot x = 22.5^\circ + 180^\circ k \quad (2)$$

$$\cdot x_{1,2} = \pm 60^\circ + 360^\circ k \quad (3)$$

$$\cdot x_1 = 30^\circ + 360^\circ k, x_2 = 150^\circ + 360^\circ k \quad (4)$$

$$\cdot x_{1,2} = \pm 60^\circ + 360^\circ k \quad (5)$$

$$x_1 = 30^\circ + 120^\circ k, x_2 = -90^\circ + 360^\circ k \quad (6)$$

$$\cdot x_{1,2} = \pm 45^\circ + 360^\circ k, x_{3,4} = \pm 135^\circ + 360^\circ k \quad (7)$$

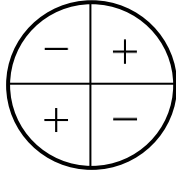
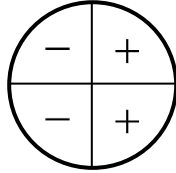
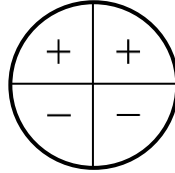
$$\cdot x = 180^\circ k \quad (8)$$

משוואות הנפתרות ע"י זהויות של מעגל היחידה:

סיכום כללי:

כאשר משוואה מכילה יותר מפונקציה טריגונומטרית אחת, יש תחילה להעביר אותה למשוואה שקולה המכילה פונקציה טריגונומטרית אחת. לאחר מכן ניתן לבצע פעולות אלגבריות בכדי לקבל משוואות יסודיות ולכתוב את הפתרון עבור כל אחת. לשם כך נעזר בזהויות טריגונומטריות.

תזכורת – זהויות של מעגל היחידה:

טנגנס	קוסינוס	סינוס	רביע
$\tan(180^\circ - \alpha) = -\tan \alpha$ $\tan(180^\circ + \alpha) = \tan \alpha$ $\tan(-\alpha) = -\tan \alpha$	$\cos(180^\circ - \alpha) = -\cos \alpha$ $\cos(180^\circ + \alpha) = -\cos \alpha$ $\cos(-\alpha) = \cos \alpha$	$\sin(180^\circ - \alpha) = \sin \alpha$ $\sin(180^\circ + \alpha) = -\sin \alpha$	I II III
			סימנים

זהויות עבור זויות הגדולות מ-360 מעלות:

$$\boxed{\begin{array}{l} \sin(\alpha + 360^\circ k) = \sin \alpha \\ \cos(\alpha + 360^\circ k) = \cos \alpha \end{array}} \quad , \quad \boxed{\begin{array}{l} \tan(\alpha + 180^\circ k) = \tan \alpha \\ \cot(\alpha + 180^\circ k) = \cot \alpha \end{array}}$$

שאלות:

כתוב את הפתרון הכללי של המשוואות הבאות:

$$\begin{array}{ll} \cos 2x = -\cos 3x & \text{(2)} \\ \sin 3x = -\cos(180^\circ - x) & \text{(4)} \end{array} \quad \begin{array}{ll} \sin x = -\sin 3x & \text{(1)} \\ \sin(x + 30^\circ) = -\cos x & \text{(3)} \end{array}$$

תשובות סופיות:

$$\begin{array}{ll} x_1 = 180^\circ + 360^\circ k, x_2 = 36^\circ + 72^\circ k & \text{(2)} \\ x_1 = 22.5^\circ + 90^\circ k, x_2 = 45^\circ + 180^\circ k & \text{(4)} \end{array} \quad \begin{array}{ll} x_1 = 90^\circ k, x_2 = -90^\circ + 180^\circ k & \text{(1)} \\ x = 120^\circ + 180^\circ k & \text{(3)} \end{array}$$

משוואות הנפתרות על ידי חלוקה בקוסינוס:

סיכום כללי:

טכניקה יעילה כדי להעביר משוואה מהצורה: $\sin x = a \cos x$ לפונקציה טריגונומטרית אחת היא ע"י חלוקה ב- $\cos x$ (בתנאי ש- $\cos x \neq 0$). כך מתקבלת המשוואה:

$$\sin x = a \cos x \quad / : \cos x \neq 0$$

$$\frac{\sin x}{\cos x} = a \frac{\cos x}{\cos x}$$

$$\tan x = a$$

$$x = \tan^{-1}(a) + 180^\circ k$$

הערה:

יש לבדוק האם ערכי x שמקיימים $\cos x = 0$ מהווים פתרון למשוואה. אם כן אז יש להוסיף אותם לפתרון הסופי.

שאלות:

כתוב את הפתרון הכללי של המשוואות הבאות:

$$3 \sin x = \cos x \quad (2)$$

$$\sin x = 2 \cos x \quad (1)$$

$$2 \sin x = -5 \cos x \quad (4)$$

$$4 \sin x = 7 \cos x \quad (3)$$

$$3 \sin^2 x = \cos^2 x \quad (6)$$

$$\sin^2 x = 8 \cos^2 x \quad (5)$$

תשובות סופיות:

$$. x = 63.43^\circ + 180^\circ k \quad (1)$$

$$. x = 18.43^\circ + 180^\circ k \quad (2)$$

$$. x = 60.25^\circ + 180^\circ k \quad (3)$$

$$. x = -68.19^\circ + 180^\circ k \quad (4)$$

$$. x_1 = 70.52^\circ + 180^\circ k, x_2 = -70.52^\circ + 180^\circ k \quad (5)$$

$$. x_1 = 30^\circ + 180^\circ k, x_2 = -30^\circ + 180^\circ k \quad (6)$$

משוואות הנפתרות על ידי זהויות של סכום והפרש זוויות:

סיכום כללי:

כאשר משוואה מכילה יותר מפונקציה טריגונומטרית אחת, יש תחילה להעביר אותה למשוואה שקולה המכילה פונקציה טריגונומטרית אחת. לאחר מכן ניתן לבצע פעולות אלגבריות בכדי לקבל משוואות יסודיות ולכתוב את הפתרון עבור כל אחת. לשם כך נעזר בזהויות טריגונומטריות.

תזכורת – זהויות של סכום והפרש זוויות:

$\sin(\alpha \pm \beta) = \sin \alpha \cos \beta \pm \sin \beta \cos \alpha$ $\cos(\alpha \pm \beta) = \cos \alpha \cos \beta \mp \sin \alpha \sin \beta$	סכום והפרש עבור סינוס וקוסינוס
$\tan(\alpha \pm \beta) = \frac{\tan \alpha \pm \tan \beta}{1 \mp \tan \alpha \tan \beta}$ $\cot(\alpha \pm \beta) = \frac{\cot \alpha \cot \beta \mp 1}{\cot \beta \pm \cot \alpha}$	סכום והפרש עבור טנגנס וקוטנגנס

שאלות:

כתוב את הפתרון הכללי של המשוואות הבאות:

$$\sin(x + 45^\circ) \sin(x - 45^\circ) = \frac{1}{2} \quad (2)$$

$$3 \cos^2 x - \sin^2 x = \sin 3x \quad (4)$$

$$2 \sin x = \sin(60^\circ - x) \quad (1)$$

$$\frac{\cos 3x}{\sin x} - \frac{\sin 3x}{\cos x} = 2 \quad (3)$$

תשובות סופיות:

$$. x = 19.11^\circ + 180^\circ k \quad (1)$$

$$. x = 90^\circ + 180^\circ k \quad (2)$$

$$. x = 15^\circ + 60^\circ k \quad (3)$$

$$. x_{1,2} = \pm 60^\circ + 180^\circ k, x_3 = 90^\circ + 360^\circ k \quad (4)$$

משוואות הנפתרות ע"י זהויות של זווית כפולה:

סיכום כללי:

כאשר משוואה מכילה יותר מפונקציה טריגונומטרית אחת, יש תחילה להעביר אותה למשוואה שקולה המכילה פונקציה טריגונומטרית אחת. לאחר מכן ניתן לבצע פעולות אלגבריות בכדי לקבל משוואות יסודיות ולכתוב את הפתרון עבור כל אחת. לשם כך נעזר בזהויות טריגונומטריות.

תזכורת – זהויות של זווית כפולה:

$\sin 2\alpha = 2 \sin \alpha \cos \alpha$	סינוס זווית כפולה
$\cos 2\alpha = \cos^2 \alpha - \sin^2 \alpha = 2 \cos^2 \alpha - 1 = 1 - 2 \sin^2 \alpha$	קוסינוס זווית כפולה

שאלות:

כתוב את הפתרון הכללי של המשוואות הבאות:

$$\begin{array}{ll} \sqrt{2} \sin x + \sin 2x = 0 & \text{(2)} & \sin x - \sin 2x = 0 & \text{(1)} \\ 2 \cos 2x + \sin 4x = 0 & \text{(4)} & 4 \cos x = \sin 2x & \text{(3)} \\ \cos 2x = 2 \sin x & \text{(6)} & 3 \cos x - \cos 2x = 0 & \text{(5)} \\ 2 \sin^2 x = \cos 2x + 2 & \text{(8)} & \sin x + \cos 2x = 1 & \text{(7)} \end{array}$$

תשובות סופיות:

$$\begin{array}{ll} x_1 = 180^\circ k, x_{2,3} = \pm 135^\circ + 360^\circ k & \text{(2)} & x_1 = 360^\circ k, x_2 = 60^\circ + 120^\circ k & \text{(1)} \\ x_1 = 45^\circ + 90^\circ k, x_2 = 135^\circ + 180^\circ k & \text{(4)} & x = 90^\circ + 180^\circ k & \text{(3)} \\ x_1 = 21.1^\circ + 360^\circ k, x_2 = 158.9^\circ + 360^\circ k & \text{(6)} & x_{1,2} = \pm 106.307^\circ + 360^\circ k & \text{(5)} \\ x_1 = 180^\circ k, x_2 = 30^\circ + 360^\circ k, x_3 = 150^\circ + 360^\circ k & \text{(7)} & & \\ x_1 = -60^\circ + 360^\circ k, x_2 = 60^\circ + 360^\circ k, x_3 = 120^\circ + 360^\circ k, x_4 = 240^\circ + 360^\circ k & \text{(8)} & & \end{array}$$

משוואות מהצורה: $a \sin(x) + b \cos(x) = c$

סיכום כללי:

ניתן להביא משוואה מהצורה: $a \sin x + b \cos x = c$ לצורה: $\sin x + \frac{b}{a} \cos x = \frac{c}{a}$.

מציאת זווית α המקיימת: $\alpha = \tan^{-1}\left(\frac{b}{a}\right)$ תאפשר לכתוב: $\sin x + \tan \alpha \cdot \cos x = \frac{c}{a}$.

שימוש בזהות: $\tan \alpha = \frac{\sin \alpha}{\cos \alpha}$ ובזהות: $\sin(\alpha + \beta) = \sin \alpha \cos \beta + \sin \beta \cos \alpha$ יובילו:

$$\sin x + \frac{\sin \alpha}{\cos \alpha} \cdot \cos x = \frac{c}{a} \quad / \cdot \cos \alpha$$

$$\sin x \cos \alpha + \sin \alpha \cos x = \frac{c}{a} \cos \alpha$$

$$\sin(x + \alpha) = \frac{c}{a} \cos \alpha$$

אם נסמן: $\frac{c}{a} \cos \alpha = k$ נקבל את המשוואה: $\sin(x + \alpha) = k$ כאשר α ו- k ידועים. מכאן הפתרון הוא ישיר לפי משוואת סינוס.

שאלות:

פתור את המשוואות הבאות:

$$5 \cos x - 6 \sin x = 1 \quad (2)$$

$$10 \sin x + 3 \cos x = 5 \quad (1)$$

$$\frac{1}{2} \sin x + \sqrt{3} \cos^2 \frac{x}{2} = \cos \frac{x}{2} \quad (4)$$

$$\sqrt{3} \sin 2x + 3 \cos 2x = \sqrt{12} \quad (3)$$

$$\cos x + \cos(60^\circ + x) = \sqrt{2} + \cos(60^\circ - x) \quad (5)$$

תשובות סופיות:

$$x_1 = 11.91^\circ + 360^\circ k, x_2 = 134.69^\circ + 360^\circ k \quad (1)$$

$$x = 15^\circ + 180^\circ k \quad (3) \quad x_1 = 227.156^\circ + 360^\circ k, x_2 = 32.44^\circ + 360^\circ k \quad (2)$$

$$x_1 = -60^\circ + 720^\circ k, x_2 = 180^\circ + 360^\circ k \quad (4)$$

$$x_1 = -105^\circ + 360^\circ k, x_2 = 15^\circ + 360^\circ k \quad (5)$$

משוואות הנפתרות ע"י זהויות של סכום והפרש פונקציות:

סיכום כללי:

כאשר משוואה מכילה יותר מפונקציה טריגונומטרית אחת, יש תחילה להעביר אותה למשוואה שקולה המכילה פונקציה טריגונומטרית אחת. לאחר מכן ניתן לבצע פעולות אלגבריות בכדי לקבל משוואות יסודיות ולכתוב את הפתרון עבור כל אחת. לשם כך נעזר בזהויות טריגונומטריות.

תזכורת – זהויות של סכום והפרש פונקציות:

$\sin \alpha + \sin \beta = 2 \sin \frac{\alpha + \beta}{2} \cos \frac{\alpha - \beta}{2}$ $\sin \alpha - \sin \beta = 2 \sin \frac{\alpha - \beta}{2} \cos \frac{\alpha + \beta}{2}$	סכום והפרש פונקציות עבור סינוס
$\cos \alpha + \cos \beta = 2 \cos \frac{\alpha + \beta}{2} \cos \frac{\alpha - \beta}{2}$ $\cos \alpha - \cos \beta = -2 \sin \frac{\alpha + \beta}{2} \sin \frac{\alpha - \beta}{2}$	סכום והפרש פונקציות עבור קוסינוס

שאלות:

כתוב את הפתרון הכללי של המשוואות הבאות:

$$\sin x + \sin 3x = \sin 2x \quad (1)$$

$$\cos 2x - \cos 6x = \sin 2x \quad (2)$$

$$\sin x + \sin 3x = 4 \sin^3 x \quad (3)$$

$$\sin 6x - \sin 4x = 1 - \cos 2x \quad (4)$$

$$(\sin 5x + \sin 7x)^2 = (\cos 5x + \cos 7x)^2 \quad (5)$$

$$2 \cos^2 \frac{x}{2} + \cos 3x + \cos 5x = 1 \quad (6)$$

$$1 + \sin x + \sin 7x = \cos 8x \quad (7)$$

$$2 \sin 3x (\cos 2x + \cos x) = \sin x + \sin 2x \quad (8)$$

$$\sin(x + 60^\circ) - \sin x = \sin(2x + 60^\circ) - \sin 2x \quad (9)$$

$$\cos^2 3x - \cos^2 x = \sin x \cos x \quad (10)$$

$$\sin 8x \sin 2x + \cos 10x = 0 \quad (11)$$

$$\cos x + 3 \sin x = 1 + 2 \cos \frac{3x}{2} \cos \frac{x}{2} \quad (12)$$

$$4 \sin 2x \sin 5x \sin 7x - \sin 4x = 0 \quad (13)$$

$$4 \cos x \cos 2x \cos 3x = 1 \quad (14)$$

תשובות סופיות:

$$x_{1,2} = \pm 60^\circ + 360^\circ k, x_3 = 90^\circ k \quad (1)$$

$$x_1 = 45^\circ + 90^\circ k, x_2 = 180^\circ k \quad (2)$$

$$x_1 = 37.5^\circ + 90^\circ k, x_2 = 7.5^\circ + 90^\circ k, x_3 = 90^\circ k \quad (3)$$

$$x_1 = 15^\circ + 60^\circ k, x_2 = 180^\circ k, x_3 = -22.5^\circ + 90^\circ k \quad (4)$$

$$x_1 = 36^\circ k, x_2 = \left(\frac{180}{7}\right)^\circ + \left(\frac{180}{7}\right)^\circ k \quad (5)$$

$$x_{1,2} = \pm 30^\circ + 90^\circ k, x_3 = 90^\circ + 180^\circ k \quad (6)$$

$$x_1 = -\left(12\frac{6}{7}\right)^\circ k + \left(51\frac{3}{7}\right)^\circ k, x_2 = 45^\circ k \quad (7)$$

$$x_1 = 40^\circ k, x_2 = 180^\circ + 360^\circ k \quad (8)$$

$$x_1 = -20^\circ + 120^\circ k, x_2 = 360^\circ k \quad (9)$$

$$x_1 = 52.5^\circ + 90^\circ k, x_2 = -7.5^\circ + 90^\circ k, x_3 = 90^\circ k \quad (10)$$

$$x_1 = 45^\circ + 90^\circ k, x_2 = 11.25^\circ + 22.5^\circ k \quad (11)$$

$$x_1 = 30^\circ + 360^\circ k, x_2 = 150^\circ + 360^\circ k \quad (12)$$

$$x_1 = 7.5^\circ + 15^\circ k, x_2 = 90^\circ k \quad (13)$$

$$x_1 = 60^\circ + 180^\circ k, x_2 = 22.5^\circ + 45^\circ k \quad (14)$$

משוואות עם תחום נתון:

סיכום כללי:

כדי למצוא את הפתרונות של משוואה טריגונומטרית בתחום נתון, נמצא תחילה את הפתרון הכללי שלה ולאחר מכן נציב ערכים ב- k ונבחר את הערכים שנמצאים בתחום הנתון.

שאלות:

מצא את כל הפתרונות של המשוואות הבאות בתחום הנתון לידן:

$$[0^\circ : 180^\circ], 8 \sin x - 4 = 0 \quad (1)$$

$$[-90^\circ : 90^\circ], \sin 2x = \sin(x + 60^\circ) \quad (2)$$

$$[-90^\circ : 90^\circ], 3 \cos(2x + 30^\circ) + 1 = 0 \quad (3)$$

$$[0^\circ : 360^\circ], \cos(50^\circ - x) = -\cos x \quad (4)$$

$$[-30^\circ : 30^\circ], 2 \sin 3x - 5 \cos 3x = 0 \quad (5)$$

$$[0^\circ : 180^\circ], 2 \cos^2 3x = \sin 6x + 1 \quad (6)$$

$$[-180^\circ : 180^\circ], \cos 4x + 1 = 3 \sin 2x \quad (7)$$

$$[-180^\circ : 180^\circ], \cos 2x + \cos^2 x + \sin x = 0 \quad (8)$$

תשובות סופיות:

$$x = 30^\circ, 150^\circ \quad (1)$$

$$x = -80^\circ, 40^\circ, 60^\circ \quad (2)$$

$$x = 39.736^\circ, -69.736^\circ \quad (3)$$

$$x = 115^\circ, 295^\circ \quad (4)$$

$$x = 22.733^\circ \quad (5)$$

$$x = 7.5^\circ, 37.5^\circ, 67.5^\circ, 97.5^\circ, 127.5^\circ, 157.5^\circ \quad (6)$$

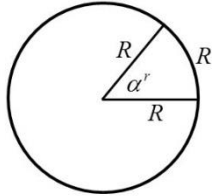
$$x = -165^\circ, -105^\circ, 15^\circ, 75^\circ \quad (7)$$

$$x = -138.19^\circ, -41.81^\circ, 90^\circ \quad (8)$$

משוואות עם זוויות ברדיאנים:

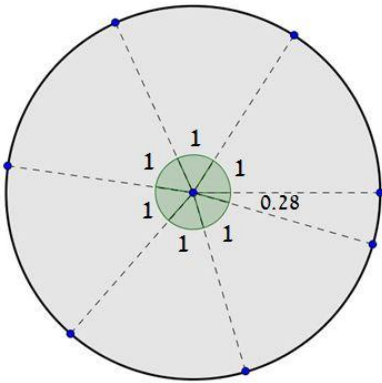
סיכום כללי:

הגדרת הרדיאן:



זווית של רדיאן אחד מוגדרת להיות הזווית המרכזית המתאימה לקשת שאורכה שווה לרדיוס המעגל.

עבור מעגל שרדיוסו R , תימצאנה 2π רדיאנים על היקפו, שכן היקף מעגל הוא $P = 2\pi \cdot R$.



באיור שלפניך ניתן לראות חלוקה של מעגל ל- $2\pi = 6.28$ קשתות אשר שוות לרדיוס המעגל. הזווית של כל קשת כזאת שווה לרדיאן אחד, כאשר הזווית האחרונה שווה ל- 0.28 מרדיאן. מקבלים 2π רדיאנים.

קשר בין רדיאנים למעלות:

- נוסחת מעבר מזווית α° (במעלות) לזווית α^r (ברדיאנים): $\alpha^r = \frac{\pi}{180} \alpha^\circ$
- נוסחת מעבר מזווית α^r (ברדיאנים) לזווית α° (במעלות): $\alpha^\circ = \frac{180}{\pi} \alpha^r$

פתרונות משוואות טריגונומטריות ברדיאנים:

להלן נוסחאות הפתרון של המשוואות הטריונומטריות היסודיות כאשר x הוא משתנה ו- α היא זווית ידועה הנתונה ברדיאנים:

המשוואה	הפתרון
$\sin x = \sin \alpha$	$x_1 = \alpha + 2\pi k$, $x_2 = \pi - \alpha + 2\pi k$
$\cos x = \cos \alpha$	$x_{1,2} = \pm \alpha + 2\pi k$
$\tan x = \tan \alpha$	$x = \alpha + \pi k$
$\cot x = \cot \alpha$	$x = \alpha + \pi k$

כאשר k מספר שלם.

שאלות:

(1) המר את הזוויות הבאות ממעלות לרדיאנים:

א. 30°	ב. 90°	ג. 75°	ד. 120°
ה. 210°	ו. 315°	ז. 18°	ח. 285°
ט. -15°	י. -80°	יא. 510°	יב. -390°

(2) המר את הזוויות הבאות מרדיאנים למעלות:

א. π	ב. 2π	ג. 4π	ד. 1.5π
ה. $\frac{1}{2}\pi$	ו. $\frac{\pi}{4}$	ז. $\frac{\pi}{6}$	ח. $\frac{1}{18}\pi$
ט. $\frac{13}{18}\pi$	י. $\frac{19}{12}\pi$	יא. $1\frac{1}{6}\pi$	יב. $2\frac{1}{4}\pi$

(3) פתור את המשוואות הבאות בתחום שלידן (משוואות יסודיות שונות):

א. $\left[0:\frac{1}{3}\pi\right], 2\sin 3x=1$	ב. $[0:\pi], \sqrt{3}+2\cos x=0$
ג. $[0:2\pi], 3-3\tan\frac{x}{2}=0$	ד. $[0:\pi], \sin\left(2x-\frac{\pi}{4}\right)=\frac{\sqrt{2}}{2}$
ה. $\left[0:\frac{1}{2}\pi\right], 4\cos\left(x+\frac{\pi}{3}\right)-2=0$	ו. $\left[-\frac{5\pi}{18}:\frac{5\pi}{18}\right], \sin x=\sin\left(\frac{2}{3}\pi-2x\right)$
ז. $\left[0:\frac{\pi}{3}\right], 5-5\tan(4x-0.1\pi)=0$	ח. $\left[-\frac{\pi}{4}:\frac{\pi}{4}\right], \sin\left(2x-\frac{\pi}{5}\right)=0.7$

(4) פתור את המשוואות הבאות בתחום שלידן (טכניקה אלגברית):

א. $\left[0:\frac{\pi}{2}\right], \sin^2 x=\frac{3}{4}$	ב. $\left[-\frac{\pi}{8}:\frac{\pi}{8}\right], 16\cos^2 2x-1=0$
ג. $[0:\pi], 2\tan^2 x-18=0$	ד. $\left[-\frac{\pi}{3}:\frac{\pi}{3}\right], 3\sin x\cos x+3\cos x=0$
ה. $\left[-\frac{\pi}{2}:\frac{\pi}{2}\right], \sin^2 x-5\sin x\cos x=0$	ו. $[-\pi:\pi], 2\sin^2 x-5\sin x+2=0$
ז. $[-\pi:0], 4\cos^2 x-\sqrt{2}\cos x-1=0$	ח. $[0:2\pi], \tan^2 x-7\tan x+10=0$

(5) פתור את המשוואות הבאות בתחום שלידן (שימוש בזהויות יסוד):

א. $0 \leq x \leq \pi$, $\sin x = \cos\left(x + \frac{\pi}{4}\right)$

ב. $0 \leq x \leq \pi$, $\tan x = 4 \sin x$

ג. $0 \leq x \leq 2\pi$, $2 \sin^2 x = 3 \cos x$

(6) פתור את המשוואות הבאות בתחום שלידן (שימוש בזהויות ממעגל היחידה):

א. $[-\pi : \pi]$, $\sin\left(x - \frac{\pi}{6}\right) = -\sin x$

ב. $[0 : \pi]$, $\sin\left(2x + \frac{2}{9}\pi\right) = -\cos 2x$

ג. $[0 : \pi]$, $\sin 4x = -\cos(\pi - x)$

ד. $\left[-\frac{\pi}{2} : \frac{\pi}{2}\right]$, $\tan x = -\tan 2x$

(7) פתור את המשוואות הבאות בתחום שלידן (זהויות של זווית כפולה):

א. $-\pi \leq x \leq \pi$, $\sin 2x + \cos^2 x = 0$

ב. $[-\pi : \pi]$, $\cos 4x + 1 = 3 \sin 2x$

ג. $-\frac{\pi}{2} \leq x \leq \frac{\pi}{2}$, $2 \sin^2 x = \cos 2x + 2$

ד. $0 \leq x \leq \pi$, $\cos 4x + \sin^2 x = 1$

תשובות סופיות:

- (1) א. $\frac{\pi}{6}$ ב. $\frac{\pi}{2}$ ג. $\frac{5\pi}{12}$ ד. $\frac{2\pi}{3}$ ה. $\frac{7\pi}{6}$
 ו. $\frac{7\pi}{4}$ ז. $\frac{\pi}{10}$ ח. $\frac{19\pi}{12}$ ט. $-\frac{\pi}{12}$ י. $-\frac{4\pi}{9}$
 יא. $\frac{17\pi}{6}$ יב. $-\frac{13\pi}{6}$
- (2) א. 180° ב. 360° ג. 720° ד. 270° ה. 90°
 ו. 45° ז. 30° ח. 10° ט. 130° י. 285°
 יא. 210° יב. 405°
- (3) א. $\frac{\pi}{18}, \frac{5\pi}{18}$ ב. $x = \frac{5\pi}{6}$ ג. $x = \frac{\pi}{2}$ ד. $x = \frac{\pi}{4}, \frac{\pi}{2}$
 ה. $x = 0$ ו. $x = \frac{2\pi}{9}$ ז. $x = 0.0875\pi$ ח. $x = 0.224\pi$
- (4) א. $x = \frac{\pi}{3}$ ב. ϕ ג. $x = 0.398\pi, 0.602\pi$ ד. ϕ
 ה. $x = 0, 0.437\pi$ ו. $x = \frac{\pi}{6}, \frac{5\pi}{6}$
- ז. $x = -\frac{\pi}{4}, -0.615\pi$ ח. $x = 0.352\pi, 0.437\pi, 1.352\pi, 1.437\pi$
- (5) א. $x = \frac{\pi}{8}$ ב. $x = 0, 0.42\pi, \pi$ ג. $x = \frac{\pi}{3}, \frac{5\pi}{3}$
- (6) א. $x = \frac{\pi}{12}, -\frac{11\pi}{12}$ ב. $x = \frac{23\pi}{72}, \frac{59\pi}{72}$
- ג. $x = \frac{\pi}{10}, \frac{\pi}{6}, \frac{\pi}{2}, \frac{5\pi}{6}, \frac{9\pi}{10}$ ד. $x = \pm \frac{\pi}{3}, 0$
- (7) א. $x = \pm \frac{\pi}{2}, -0.148\pi, 0.852\pi$ ב. $x = -\frac{7\pi}{12}, \frac{\pi}{12}, \frac{5\pi}{12}, \frac{11\pi}{12}$
 ג. $x = \pm \frac{\pi}{3}$ ד. $x = 0, 0.38\pi, 0.61\pi, \pi$

אי שוויונים טריגונומטריים:

סיכום כללי:

- כדי לפתור אי-שוויון טריגונומטרי בתחום מסוים נבצע את השלבים הבאים:
1. נהפוך את סימן אי השוויון לסימן שוויון ונפתור את המשוואה המתקבלת.
 2. נסדר את כל הפתרונות על ציר מספרים ונבחר ערך בכל תחום.
 3. נציב את הערכים באי השוויון המקורי ונאמר כי:
 - אם מתקבל פסוק אמת אז תחום זה מהווה פתרון של אי השוויון.
 - אם מתקבל פסוק שקר אז תחום זה אינו פתרון של אי השוויון.
 4. נרכז את כל התחומים ונכתוב את הפתרון המלא.

הערה:

במידה והמשוואה אינה מוגדרת עבור ערך מסוים הערך הזה מוכנס גם לציר המספרים.

שאלות:

פתור את אי השוויונים הבאים בתחום הרשום לידם:

$$[0, 1.5\pi] \quad 2 \cos x - \sqrt{3} \geq 0 \quad (2) \qquad [0, 180^\circ] \quad \sin x < \frac{1}{2} \quad (1)$$

$$[0, \pi] \quad \sin x + \sin 2x + \sin 3x < 0 \quad (4) \qquad (-90^\circ, 90^\circ) \quad 2 \cos^2 x + \sin x \geq 1 \quad (3)$$

$$(0 < x < \pi) \quad \sin x + \sqrt{3} \cos x \geq 1 \quad (6) \qquad [0^\circ, 180^\circ] \quad 1 < 2 \sin(x + 10^\circ) < \sqrt{3} \quad (5)$$

$$(-\pi < x < \pi) \quad |\tan(x)| > \frac{1}{\sqrt{3}} \quad (8) \qquad [0, 2\pi] \quad \tan x + \cot x > 0 \quad (7)$$

תשובות סופיות:

$$. 0^\circ \leq x < 30^\circ, 150^\circ \leq x \leq 180^\circ \quad (1)$$

$$. 0 \leq x \leq \frac{\pi}{6} \quad (2)$$

$$. -30^\circ \leq x < 90^\circ \quad (3)$$

$$. \frac{\pi}{2} < x < \frac{2\pi}{3} \quad (4)$$

$$. 20^\circ < x < 50^\circ, 110^\circ < x < 140^\circ \quad (5)$$

$$. 0 < x \leq \frac{\pi}{2} \quad (6)$$

$$. 0 < x < \frac{\pi}{2}, \pi < x < \frac{3}{2}\pi \quad (7)$$

$$. -\frac{5\pi}{6} < x < -\frac{\pi}{6}, x \neq -\frac{\pi}{2} : \text{או} \frac{\pi}{6} < x < \frac{5\pi}{6}, x \neq \frac{\pi}{2} \quad (8)$$

מכינה במתמטיקה להנדסת מכונות

פרק 25 - טריגונומטריה במישור

תוכן העניינים

1. שאלות יסודיות עם משפט הסינוסים והקוסינוסים 387
2. שאלות העוסקות בנוסחת שטח משולש 395
3. שאלות המשלבות ידע בגיאומטריה 404
4. שאלות מסכמות 408

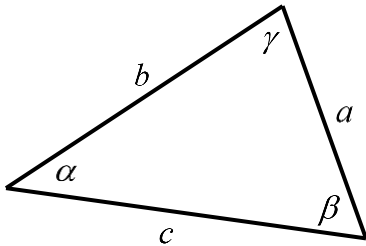
שאלות יסודיות עם משפט הסינוסים והקוסינוסים:

סיכום כללי:

משפט הסינוסים:

במשולש, צלע חלקי סינוס הזווית שמולה הוא גודל קבוע והוא שווה לפעמיים רדיוס המעגל החוסם.

$$\frac{a}{\sin \alpha} = \frac{b}{\sin \beta} = \frac{c}{\sin \gamma} = 2R$$



משפט הקוסינוסים:

במשולש, ריבוע צלע אחת שווה לסכום ריבועי שתי הצלעות האחרות פחות מכפלתן

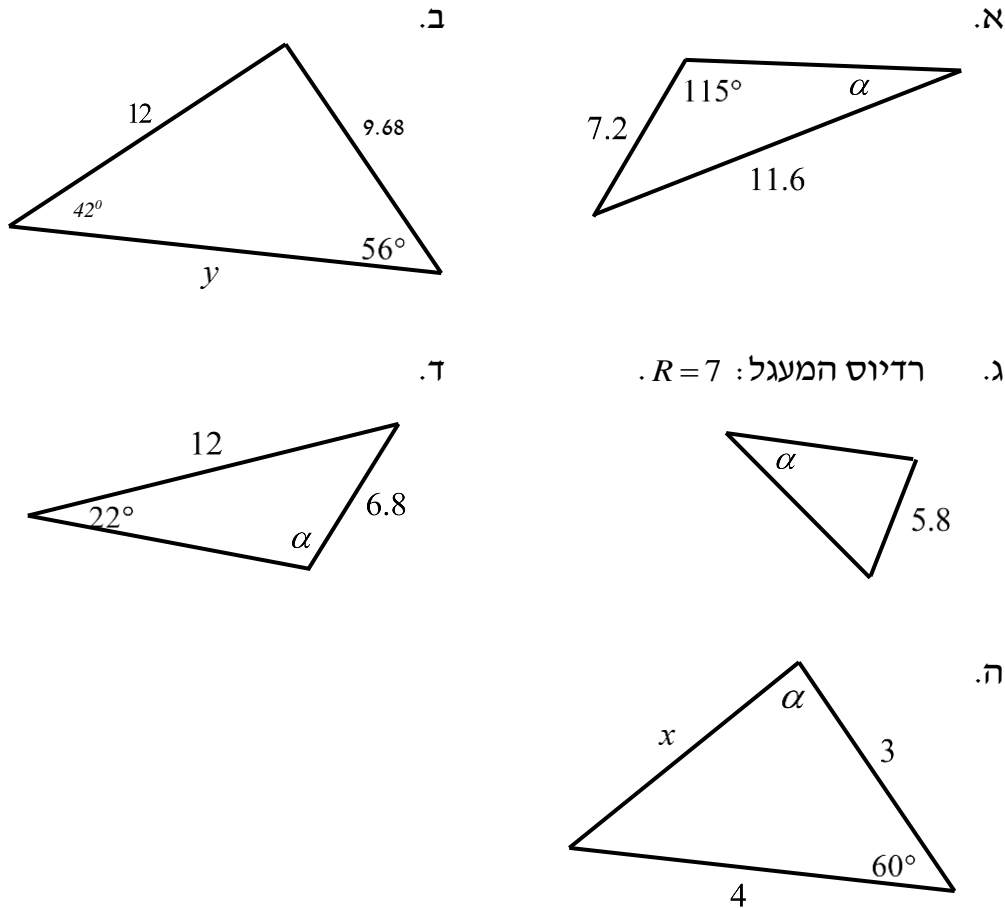
$$c^2 = a^2 + b^2 - 2ab \cos \gamma \quad \text{או} \quad \cos \gamma = \frac{a^2 + b^2 - c^2}{2ab}$$

מתי נשתמש בכל משפט:

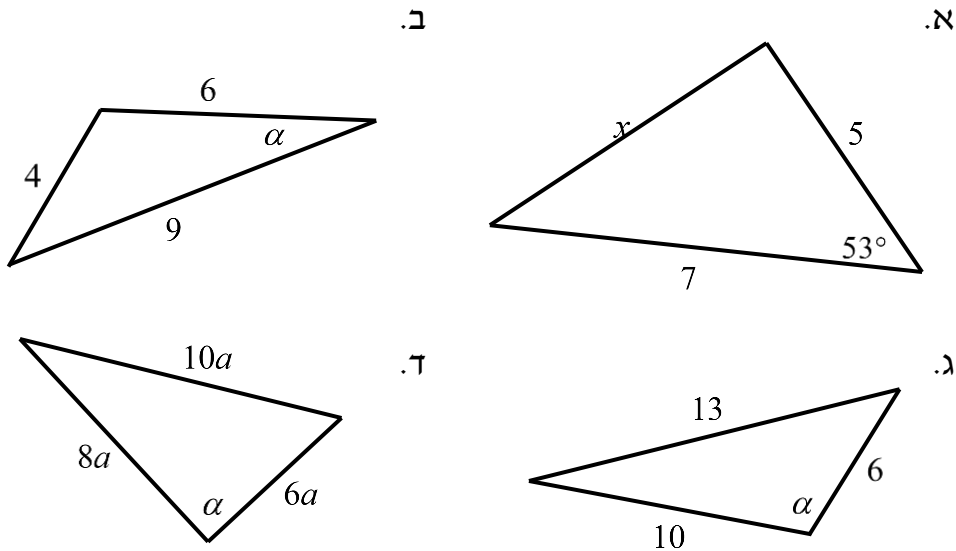
- נשתמש במשפט הסינוסים כאשר:
 - א. נתונות שתי זוויות וצלע.
 - ב. נתונות שתי צלעות והזווית מול אחת מהן.
 - ג. נתון רדיוס המעגל החוסם וצלע/זווית נוספת.
- נשתמש במשפט הקוסינוסים כאשר:
 - א. נתונות שתי צלעות והזווית ביניהן.
 - ב. נתונות שלוש צלעות.
- כאשר ישנם יותר נתונים מאשר בסעיפים שלהלן ייתכן שנוכל להשתמש בשני המשפטים. בבחירת המשפט שבו נשתמש כדאי לזכור שבמשפט הסינוסים ייתכנו שתי תשובות לזווית, גם אם בפועל רק אחת נכונה, ובמשפט הקוסינוסים תתקבל בוודאות הזווית הנכונה.

שאלות:

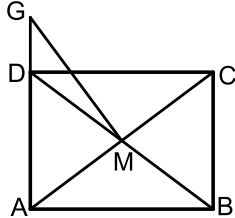
1 מצא את ערכו של $a/x/y$ במשולשים הבאים (R הוא רדיוס המעגל החוסם, נתוני הצלעות בס"מ):



2 מצא את ערכו של α/x במשולשים הבאים:

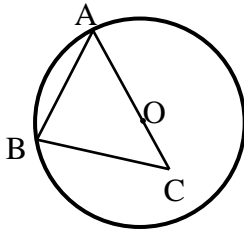


- (3) נתון משולש שווה שוקיים ABC ($AB=AC$) שאורך השוק שלו הוא 22 ס"מ וגודלה של זווית הבסיס בו הוא 70° . CD הוא חוצה זווית הבסיס C . מצא את אורכו של הקטע AD .



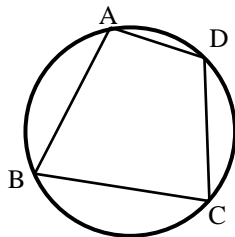
- (4) אלכסוני המלבן $ABCD$ נפגשים בנקודה M . הנקודה G נמצאת על המשך הצלע AD . נתון: $AD = 3$ ס"מ, $AB = 4$ ס"מ, $DG = 1.2$ ס"מ. מצא את גודלו של הקטע GM .

- (5) מרובע שאורכי אלכסוניו 8 ס"מ ו-11 ס"מ חסום במעגל שאורך רדיוסו הוא 6 ס"מ. חשב את זוויות המרובע.

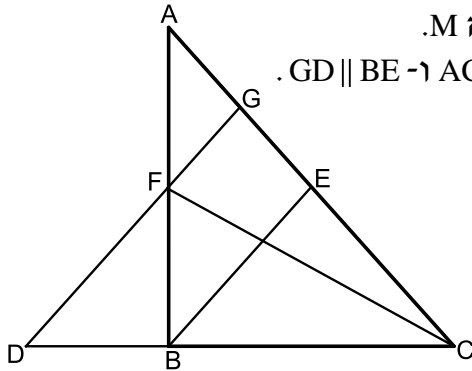


- (6) הצלע AB במשולש ABC היא מיתר במעגל שמרכזו O . הצלע AC עוברת במרכז המעגל כמתואר בשרטוט. נתון: $BC = 9$ ס"מ, $OC = 3$ ס"מ, $\angle BAC = 38^\circ$. מצא את אורכם של רדיוס המעגל ושל הצלע AB .

- (7) אחד האלכסונים במקבילית יוצר זווית של 30° עם צלע אחת של המקבילית וזווית של 61.05° עם הצלע הסמוכה לה. אחת מצלעות המקבילית גדולה ב-3 ס"מ מהצלע הסמוכה לה. חשב את היקף המקבילית.



- (8) המרובע $ABCD$ חסום במעגל. נתון: $AB = 6$ ס"מ, $BC = 9$ ס"מ, $CD = 10$ ס"מ ו- $AD = 4$ ס"מ. מצא את אורכם של האלכסון AC ושל רדיוס המעגל.



9) BE ו-CF הם תיכונים במשולש ABC הנפגשים בנקודה M.

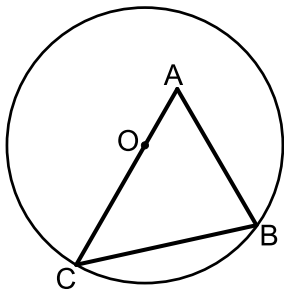
מהנקודה F מעבירים קטע GD כך שמתקיים: $AC = DC$ ו- $GD \parallel BE$.

א. הוכח: $\frac{AG}{BD} = \frac{3}{4}$.

ב. נתון כי: $ME = 4$ ס"מ. חשב את אורך הקטע DG.

ג. נתון כי: $\angle ACD = 48.189^\circ$. הוכח כי המשולש DGC הוא שווה-שוקיים.

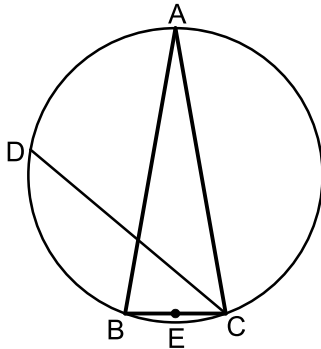
10) נתון משולש ABC. הקודקודים B ו-C של המשולש ABC נמצאים על מעגל שמרכזו O. מרכז המעגל O מונח על הצלע AC. אורך הצלע AB הוא 12 ס"מ ואורך הקטע AO הוא 4.5 ס"מ. זווית BAC היא 60° .



א. חשב את רדיוס המעגל.

ב. מעבירים את הקוטר BD ואת הקטע AD כך שנוצר המשולש ADB. חשב את זווית ADB.

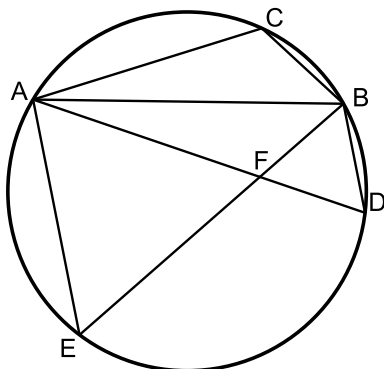
11) המשולש ABC הוא שווה שוקיים ($AB = AC$) החסום במעגל שרדיוסו R. הנקודה E היא אמצע הבסיס BC והנקודה D היא אמצע הקשת \widehat{AB} . ידוע כי זווית הבסיס של המשולש היא 80° .



א. הבע באמצעות R את הקטעים CD ו-DE.

ב. r הוא רדיוס המעגל החוסם את המשולש CED. הבע באמצעות R את r.

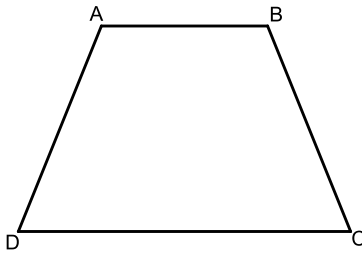
12) AB, AC ו-AD הם מיתרים במעגל המקיימים: $\widehat{BC} = \widehat{BD}$. מהנקודה E שעל המעגל מעבירים את המיתרים AE ו-BE. המיתרים BE ו-AD נחתכים בנקודה F. נתון כי: $AC = AF = EF$.



א. הוכח: $\triangle ABF \cong \triangle ABC$.

ב. נתון גם: $\angle CAB = 3 \cdot \angle DAE$. הוכח כי המשולש AFE הוא שווה צלעות.

13) המרובע ABCD הוא טרפז שווה שוקיים ($AB \parallel CD, AD = BC$).

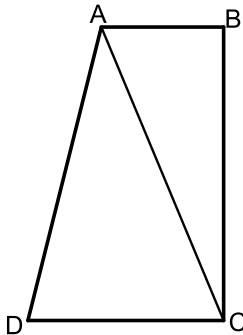


מידות הטרפז הן:

$AB = 6$ ס"מ, $BC = 8$ ס"מ, $CD = 12$ ס"מ.

- מצא את זווית C (עגל למספר שלם).
- מצא את אורך אלכסון הטרפז.
- חשב את רדיוס המעגל החוסם את הטרפז.

14) המרובע ABCD הוא טרפז ישר זווית ($AB \parallel CD, \angle B = 90^\circ$).

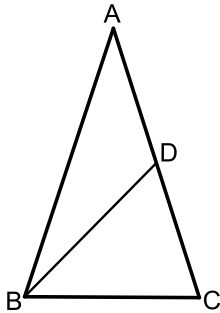


מסמנים את הבסיס: $AB = t$ וידוע כי: $AD = 3t, DC = 1.6t$.
היקף הטרפז הוא: 40 ס"מ.

- הבע באמצעות t את אורך האלכסון AC.
- ידוע גם כי: $\angle D = 60^\circ$.
- i. חשב את אורך הקטע AC.
- ii. חשב את שטח הטרפז.

15) המשולש ABC הוא שווה שוקיים ($AB = AC$) בעל זווית

ראש 36° החסום במעגל שקוטרו 16 ס"מ. מעבירים תיכון לשוק BD.



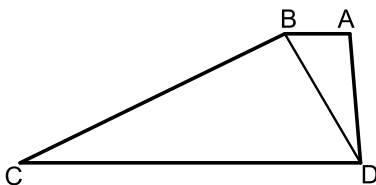
- מצא את אורך הבסיס BC במשולש.
- חשב את אורך התיכון BD.
- מסמנים:

r_1 - רדיוס המעגל החוסם את המשולש ABD.
 r_2 - רדיוס המעגל החוסם את המשולש BCD.

$$\frac{r_1}{r_2} = 2 \cos 36^\circ$$

הוכח את היחס הבא:

16) המרובע ABCD הוא טרפז ($AB \parallel CD$).



מעבירים את האלכסון BD המקיים: $\angle BCD = \angle ADB$.
נתון כי: $AB = 5$ ס"מ, $AD = 10$ ס"מ, $CD = 20$ ס"מ.
כמו כן ידוע כי השוק BC גדולה פי 2 מהאלכסון BD.

- הראה כי השוק BC שווה לבסיס CD.
- חשב את זווית C.
- ממשיכים את שוקי הטרפז AD ו-BC עד לנקודה E שמחוץ לטרפז.
חשב את רדיוס המעגל החוסם את המשולש CDE.

17 באיור שלפניך נתון המרובע ABCD.

ידוע כי: $\angle D = 90^\circ$.

נסמן את הצלעות באופן הבא: $AB = 6x$, $BC = 5x$, $CD = 8x$, $AD = 3x$.

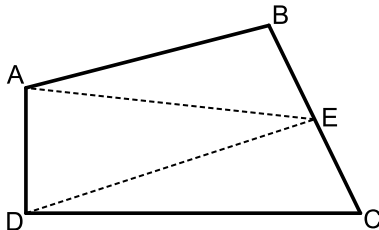
א. חשב את זווית BCD.

ב. E היא נקודה הנמצאת על אמצע הצלע BC.

מעבירים את הקטעים AE ו-DE כך

ש-DE מקביל ל-AB.

חשב את היחס הבא: $\frac{S_{ABE}}{S_{BCD}}$.



18 מהנקודה O מעבירים את הקטעים OA, OB, OC ו-OD.

ידוע כי זווית AOB שווה לזווית COD והיא מסומנת ב- α .

המשולש COD הוא ישר זווית $\angle CDO = 90^\circ$.

נתונים האורכים: $BO = 9$, $DO = 10$.

מסמנים: $BC = 1.4m$, $CD = 1.5m$.

א. הבע באמצעות m את $\sin \alpha$.

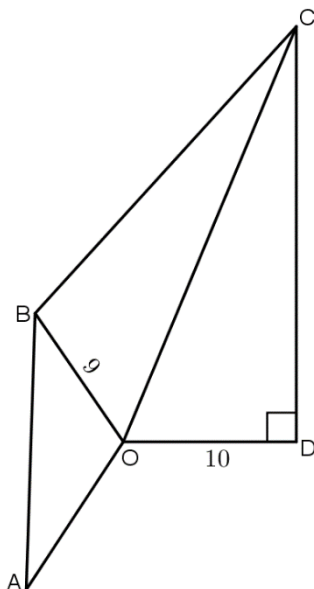
(העזר במשולש COD ובטא תחילה את CO).

ב. נתון גם כי: $AB = m$.

מצא את m אם ידוע כי רדיוס המעגל החוסם

את המשולש AOB הוא $8\frac{2}{3}$.

ג. חשב את זווית BOC.



19 במשולש ABC הזווית A היא בת 60° .

מעבירים את הקטע AD כך שנוצרת זווית: $\angle ADB = 60^\circ$.

ידוע כי $AB = \sqrt{28}$ וכי הצלע AD במשולש ABD

גדולה פי 1.5 מהצלע BD.

א. מצא את אורך הצלע BD.

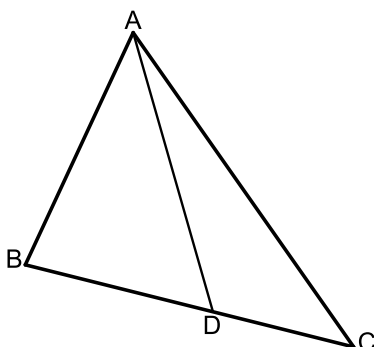
ב. היקף המשולש ABC הוא: $P = 5\sqrt{7} + 7$.

i. סמן: $DC = t$ והבע באמצעות t

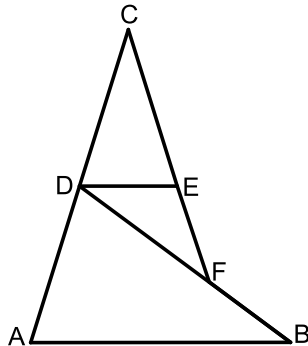
את אורך הצלע AC.

ii. מצא את t.

ג. חשב את שטח המשולש ABC.

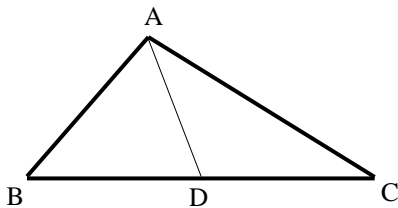


- (20)** מהנקודה A מעבירים את הקטעים AB ו-AC. הנקודה D היא אמצע AC וממנה מעבירים את DE המקביל ל-AB. הנקודות E, C ו-F נמצאות על אותו הישר. ידוע כי המשולשים ABD, DEF ו-DCE הם שווים שוקיים ($AB = BD, DC = CE, EF = DE$). נתון כי: $AD = 8$.

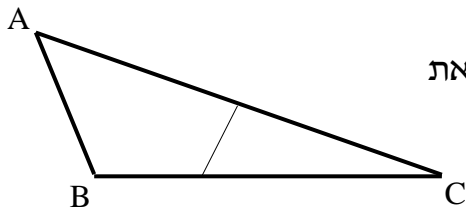


- א. חשב את אורך הקטע BF.
ב. מחברים את הנקודות B ו-C. חשב את אורך הצלע BC.

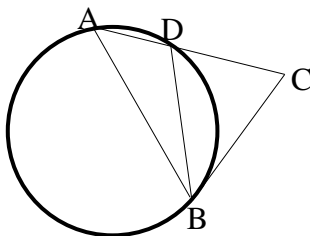
- (21)** בשרטוט נתון: $AB = 6$ ס"מ, $AC = 8$ ס"מ, הנקודה D היא אמצע הצלע BC. $AD = 5$ ס"מ. חשב את אורך הקטע BC.



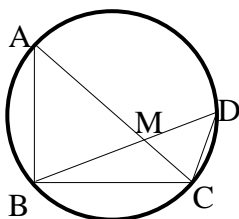
- (22)** הצלע AC במשולש ABC גדולה פי 4 מהצלע AB. הנקודה E היא אמצע הצלע AC והנקודה D נמצאת על הצלע BC כך שמתקיים $DC = 2BD$. נתון: $BC = b, AB = a$. הבע באמצעות a ו-b את אורך הקטע DE.



- (23)** המשולש ABD חסום במעגל שרדיוסו R. המשך הצלע AD והמשיק למעגל בנקודה B נפגשים בנקודה C. נתון: $\angle C = \alpha, \angle ADB = \beta$. הבע באמצעות R, α ו- β את אורך הקטע BC.



- (24)** AC ו-BD הם מיתרים במעגל שרדיוסו R, שנפגשים בנקודה M. זווית $\angle B$ היא זווית ישרה. נתון: $DC = q, DM = p, AB = k$. הבע באמצעות R, k, p ו-q את אורך הקטע MC.



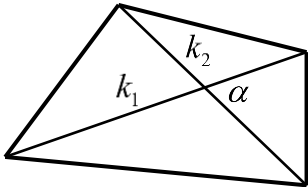
תשובות סופיות:

- א. $\alpha = 34.231^\circ$ ב. 14.33 ס"מ = y ג. $\alpha = 155.526^\circ$ או $\alpha = 24.474^\circ$ (1)
- ד. $\alpha = 41.382^\circ$ או $\alpha = 138.618^\circ$ ה. 3.606 ס"מ = x , $\alpha = 73.898^\circ$
- א. 5.646 ס"מ = x ב. $\alpha = 20.742^\circ$ ג. $\alpha = 105.962^\circ$ ד. $\alpha = 90^\circ$ (2)
- AD = 13.064 ס"מ (3)
- GM = 3.360 ס"מ (4)
- 66.444° , 113.556° , 41.810° , 138.190° (5)
- $R = 9.242$ ס"מ, $AB = 14.56$ ס"מ (6)
- $P = 22$ ס"מ (7)
- $R = 5.395$ ס"מ, $AC = 10.790$ ס"מ (8)
- $DG = 18$ (9)
- $R = 10.5$ ס"מ ב. 24.32° (10)
- א. $DE = 1.48R$, $CD = R\sqrt{3}$ ב. $r = 1.15R$ (11)
- א. 68° ב. 11.66 ס"מ ג. $R = 6.29$ ס"מ (13)
- א. $AC = \sqrt{32.36t^2 - 448t + 1600}$ ב. i. 13 ס"מ ii. 78 סמ"ר (14)
- א. 9.4 ס"מ ב. i. 10 ס"מ (15)
- א. $\sphericalangle C = 28.9^\circ$ ב. $R = 13.77$ ג. (16)
- א. 64.04° ב. $\frac{S_{ABE}}{S_{ECD}} = 0.817$ (17)
- א. $\sin \alpha = \frac{1.5m}{\sqrt{100 + 2.25m^2}}$ ב. $m = 16$ ג. 56.94° (18)
- א. 4 ב. i. $1.5\sqrt{28} + 3 - t$ ii. 3 ג. $S = 18.18$ (19)
- א. 4.94 ס"מ ב. 17.19 ס"מ (20)
- BC = 10 ס"מ (21)
- $DE = \sqrt{\frac{1}{9}b^2 - a^2}$ (22)
- $MC = \sqrt{p^2 + q^2 - \frac{pqk}{R}}$ (24)
- $BC = \frac{2R \sin \beta \sin(\beta - \alpha)}{\sin \alpha}$ (23)

שאלות העוסקות בנוסחת שטח משולש:

סיכום כללי:

שטחים של משולשים ומרובעים:

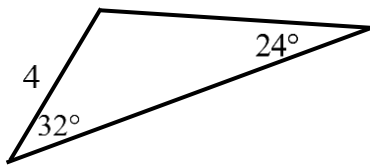


- שטח משולש ניתן לחישוב ע"י: $S = \frac{a \cdot h}{2} = \frac{ab \sin \gamma}{2} = \frac{a^2 \sin \beta \sin \gamma}{2 \sin \alpha}$
- שטח מרובע ניתן לחישוב ע"י אלכסונו: $S = \frac{k_1 k_2 \sin \alpha}{2}$

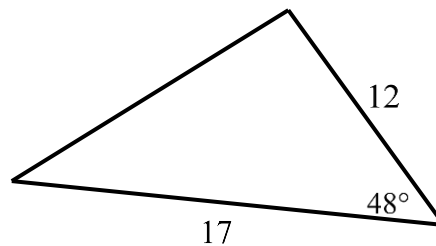
שאלות:

25) חשב את שטחי המשולשים הבאים:

ב.



א.



26) חשב את שטחו של טרפז שווה שוקיים שאורך האלכסון שלו 8 ס"מ והוא יוצר זווית של 15° עם הבסיסים.

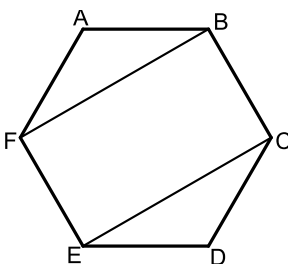
27) אורכו של מלבן הוא m ורוחבו n . הזווית שבין אלכסונו המלבן היא θ .

$$\sin \theta = \frac{2mn}{m^2 + n^2} \text{ : הוכח כי מתקיים}$$

28) במשולש ישר זווית ABC ($\angle B = 90^\circ$), BD חוצה את הזווית $\angle B$.

נתון: $\angle A = \alpha$, $AB = m$

הבע באמצעות α ו- m את שטח המשולש BCD.



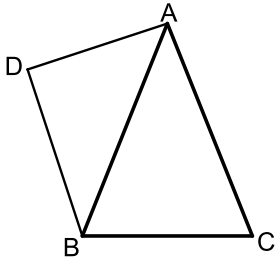
29) באיור שלפניך נתון משושה משוכלל ששטחו הכולל הוא S .

א. הבע באמצעות S את אורך צלע המשושה.

ב. מעבירים אלכסונים במשושה כך שנוצר המלבן BFEC.

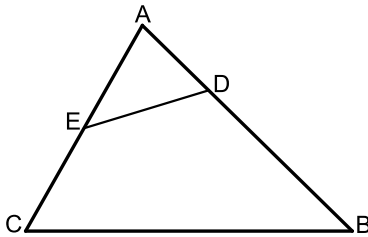
הבע באמצעות S את שטח המלבן.

30 המשולש ABC הוא שווה שוקיים בעל זווית ראש α , $(AB = AC)$. אורך הבסיס BC הוא k .



- על השוק AB בונים משולש ישר זווית ABD ובו $\angle D = 90^\circ$.
- הבע באמצעות k ו- α את אורך שוק המשולש ABC.
 - הניצב AD במשולש ABD שווה ל- $0.85k$.
 - וכי: $\angle ABD = 40^\circ$. מצא את זוויות המשולש ABC.
 - חשב את שטח המרובע ACBD אם ידוע כי $k = 6$.

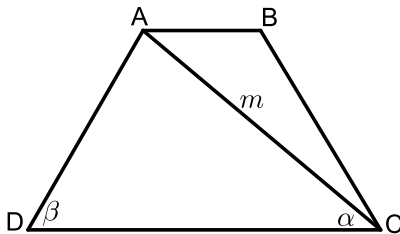
31 במשולש ABC אורך הצלע AC הוא 8 ס"מ ואורך הצלע AB הוא 10 ס"מ. הנקודה E היא אמצע הצלע AC והנקודה D מקיימת: $AD = 3$ ס"מ.



$$\frac{DE}{BC} = \frac{2}{5}$$

- מצא את אורך הקטע DE.
- חשב את רדיוס המעגל החוסם את המשולש ADE.
- חשב את שטח המרובע BCED.

32 המרובע ABCD הוא טרפז $(AB \parallel CD)$. הקטע AC הוא אלכסון בטרפז.



מסמנים: $AC = m$, $\angle ACD = \alpha$, $\angle ADC = \beta$.

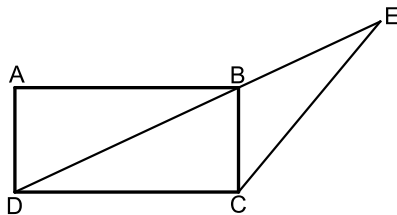
א. הבע באמצעות α , β ו- m את אורך הבסיס הגדול DC.

ב. נתון כי האלכסון AC מקיים: $\frac{S_{ADC}}{S_{ABC}} = 3$.

הבע באמצעות α , β ו- m את הבסיס AB.

ג. חשב את שטח הטרפז אם ידוע כי: $\beta = 60^\circ$, $\alpha = 40^\circ$ ו- $m = 8$.

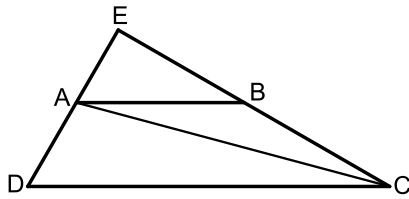
33 המרובע ABCD הוא מלבן. מעבירים את האלכסון BD וממשיכים אותו עד לנקודה E שמחוץ למלבן.



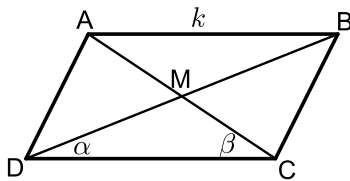
מחברים את הנקודה E עם הקודקוד C.

ידוע כי אורך הצלע AD של המלבן הוא 6 ס"מ וכי אורך הקטע BE הוא 9 ס"מ. הזווית CBE היא 115° .

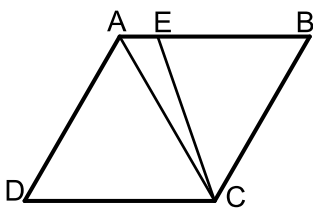
- מצא את אורך הקטע CE.
- מצא את אורך האלכסון BD.
- חשב את שטח המשולש DCE.



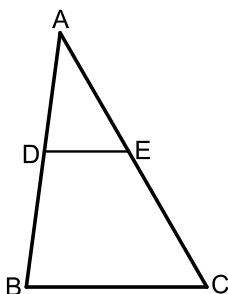
- (34)** המרובע ABCD הוא טרפז $(AB \parallel CD)$.
 ממשיכים את השוקיים AD ו-BC עד לפגישתם
 בנקודה E. ידוע כי: $DE \perp CE$.
 מעבירים את האלכסון AC אשר חוצה את זווית C.
 מסמנים את הבסיס הגדול DC ב- k ואת: $\angle ACD = \alpha$.
 א. הבע באמצעות k ו- α את הבסיס הקטן AB.
 ב. הבע באמצעות k ו- α את שטח המשולש ABC.
 ג. חשב את שטח המשולש ABC כאשר: $\alpha = 15^\circ$, $12 \text{ ס"מ} = k$.



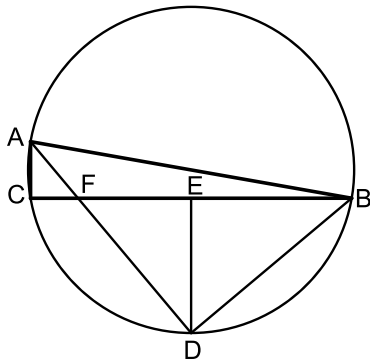
- (35)** נתונה מקבילית ABCD ובה מעבירים
 את האלכסונים AC ו-BD אשר נחתכים
 בנקודה M כמתואר באיור.
 מסמנים: $AB = k$, $\angle BDC = \alpha$, $\angle ACD = \beta$.
 א. הוכח כי אלכסוני המקבילית מקיימים:
 $\frac{AC}{BD} = \frac{\sin \alpha}{\sin \beta}$.
 ב. ענה על השאלות הבאות:
 i. הבע באמצעות α , β ו- k את שטח המשולש DMC.
 ii. הבע באמצעות α , β ו- k את שטח המקבילית ABCD.
 ג. נתון כי: $\frac{AC}{BD} = 2$. הראה כי שטח המקבילית הוא:
 $\frac{4k^2 \sin^2 \beta}{\sin(\alpha + \beta)}$.



- (36)** המרובע ABCD הוא מעוין ובו $\angle D = 60^\circ$.
 מעבירים את האלכסון AC ואת הקטע CE
 כך שהנקודה E נמצאת על הצלע AB ומחלקת
 אותה ביחס: $\frac{BE}{AE} = 4$.
 א. חשב את זווית AEC.
 ב. נתון כי שטח המשולש AEC הוא 8.66 סמ"ר. חשב את שטח המעוין.



- (37)** הקטע DE מקביל לצלע BC במשולש ABC כמתואר באיור.
 נתון כי: $BC = 15$, $CE = 13$, $BD = \sqrt{129}$.
 ידוע כי זווית AED היא 60° .
 א. חשב את אורך הקטע DE אם ידוע
 ב. כי הוא קטן מ-10 ס"מ.
 ג. חשב את שטח המשולש ADE.



38) המשולש ABC חסום במעגל כך ש-AB הוא קוטר.

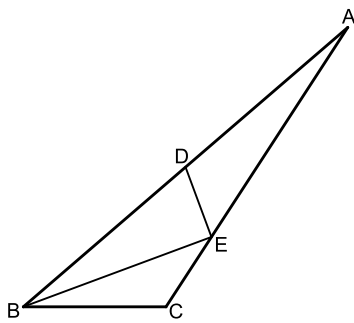
הנקודה D היא אמצע הקשת BC וממנה מעבירים את המיתרים AD ו-BD ומעלים גובה DE לצלע BC.

מסמנים: $DE = k$ ונתון כי: $\angle ABC = 10^\circ$.

א. הבע באמצעות k את רדיוס המעגל.

ב. הבע באמצעות k את שטח המשולש ABF.

ג. מצא את k אם ידוע כי שטח המשולש ABF הוא 15.363 סמ"ר.



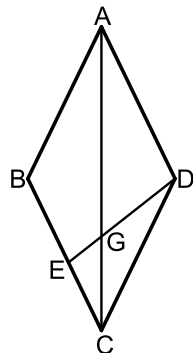
39) במשולש ABC הקטע BE חוצה את זווית B.

הנקודה D היא אמצע הצלע AB ומקיימת: $DE = CE$.

ידוע כי: $BC = 6$, $BE = 8$, $BD = 9$.

א. מצא את זווית B.

ב. חשב את שטח המשולש ADE.



40) נתון המעוין ABCD. אורך האלכסון הגדול במעוין AC גדול פי 1.8 מצלע המעוין.

א. חשב את זוויות המעוין.

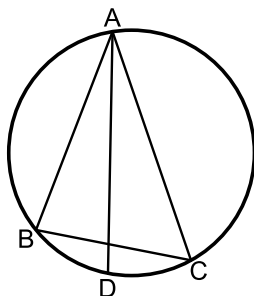
ב. מהקודקוד D מעבירים את הקטע DE שאורכו הוא m .

הקטע DE חותך את האלכסון AC בנקודה G.

הזווית EDC תסומן ב- α .

i. הבע באמצעות m ו- α את אורך הקטע CE.

ii. הבע באמצעות m ו- α את שטח המשולש EGC.



41) המשולש ABC חסום במעגל כמתואר באיור.

מעבירים את המיתר AD החוצה את זווית BAC.

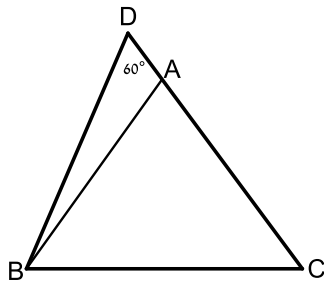
ידוע כי: $\angle ACB = 60^\circ$, $\angle BAC = 40^\circ$.

מסמנים: $AD = k$.

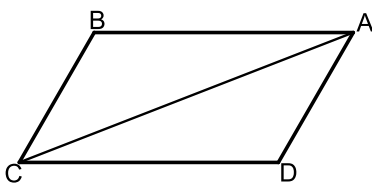
א. הבע באמצעות k את אורך המיתר BD.

ב. ידוע כי שטח המשולש ABD הוא 7.368 סמ"ר.

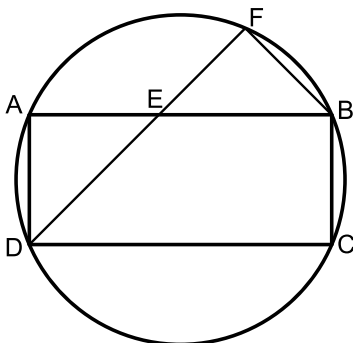
מצא את k (עגל למספר שלם).



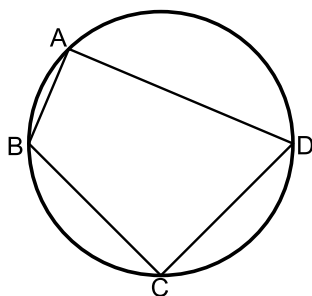
- (42)** המשולש ABC הוא שווה שוקיים ($AB = AC$). ממשיכים את הצלע AC עד לנקודה D כך שאורך שוק המשולש גדולה פי 3.8 מהקטע AD. ידוע כי: $\angle D = 60^\circ$. אורך הקטע BD הוא 21 ס"מ.
א. מצא את אורך הקטע AD.
ב. חשב את שטח המשולש ABC.



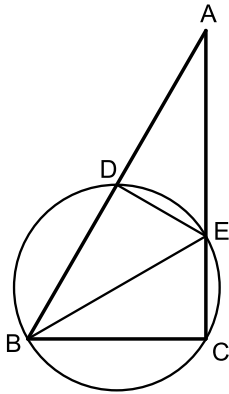
- (43)** במקבילית ABCD אורך האלכסון AC הוא $\sqrt{79}$ ס"מ. היקף המקבילית הוא 20 ס"מ וידוע כי: $\angle B = 120^\circ$.
א. מצא את אורכי צלעות המקבילית.
ב. חשב את שטח המקבילית.
ג. מסמנים נקודה E על האלכסון AC כך שהמרובע CBED הוא בר חסימה. חשב את רדיוס המעגל החוסם את המרובע CBED.



- (44)** המרובע ABCD הוא מלבן החסום במעגל. מהקודקוד D מעבירים את המיתר DF החותך את הצלע AB בנקודה E. ידוע כי: $\widehat{AF} = \widehat{CF}$. הצלע AD של המלבן תסומן ב- a .
א. הוכח כי המשולש DAE שווה שוקיים.
ב. נתון גם כי: $BC = BF$.
i. הבע באמצעות a את רדיוס המעגל.
ii. חשב את הזוויות המרכזיות של הקשתות: \widehat{AB} , \widehat{BC} . (אין צורך לסרטט אותן).



- (45)** המרובע ABCD חסום במעגל כמתואר באיור. ידוע כי: $AB = b$, $BC = a$, $CD = a$, $AD = 3b$.
א. הבע באמצעות a ו- b את $\cos \angle BCD$.
ב. הוכח כי אם BD קוטר אז מתקיים: $a = b\sqrt{5}$.
ג. נתון כי רדיוס המעגל הוא 3 ס"מ. הסתמך על סעיף ב' וחשב את שטח המרובע ABCD.



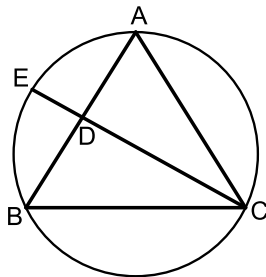
- (46)** המשולש ABC הוא ישר זווית $\sphericalangle C = 90^\circ$ ובו: $\sphericalangle B = 2\alpha$.
 מעבירים מעגל שרדיוסו R דרך הקודקודים B ו-C אשר חותך את צלעות המשולש בנקודות D ו-E. המיתר BE חוצה את זווית B.
 א. הבע באמצעות R ו- α את שטח המשולש ABE.
 ב. ידוע כי המשולש ABE הוא שווה שוקיים וכי אורך המיתר CE הוא 6 ס"מ.
 חשב את שטח המשולש ABE.

- (47)** במשולש שווה שוקיים ABC ($AB = AC$) שאורך השוק בו הוא k וזווית הבסיס שלו היא β , BE חוצה את זווית B ו-CD הוא הגובה לשוק AB.

הוכח כי שטח המשולש ADE הוא:

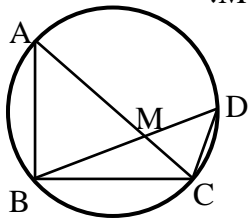
$$S_{ADE} = -\frac{k^2 \sin \frac{\beta}{2} \sin 4\beta}{4 \sin \frac{3\beta}{2}}$$

- (48)** נתון משולש שווה שוקיים ABC ($AB = AC$) החסום במעגל. מהקודקוד C מעבירים את המיתר CE החותך את השוק AB בנקודה D.



- ידוע כי E היא אמצע הקשת \widehat{AB} והיחס בין הקטעים BD ו-CD הוא 4:7.
 מסמנים: $\sphericalangle ACD = \alpha$.
 א. מצא את זוויות המשולש ABC (עגל למספרים שלמים).
 ב. חשב את אורך המיתר BE אם ידוע כי רדיוס המעגל החוסם שווה ל-8 ס"מ.

- (49)** AC ו-BD הם מיתרים במעגל שרדיוסו R, שנפגשים בנקודה M.

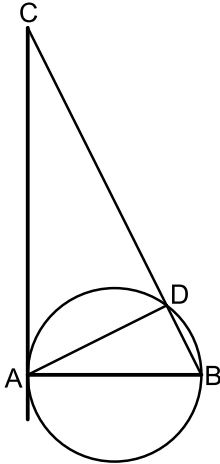


- זווית B היא זווית ישרה.
 נתון: $\sphericalangle MCB = \beta$, $\sphericalangle MBC = \alpha$.
 א. הבע באמצעות R, α ו- β את שטח המשולש BDC.
 ב. נתון: $\beta = 2\alpha$, $S_{BDC} = \frac{1}{2}R^2$.
 חשב את α .

50 בטרפז שווה שוקיים, שאורך השוק שבו הוא b והזווית שליד הבסיס הגדול היא γ נתון שהאלכסונים מאונכים זה לזה.

א. הבע באמצעות γ ו- b את אורכי בסיסי הטרפז.

ב. חשב את γ אם ידוע שהבסיס הגדול ארוך פי $\sqrt{3}$ מהבסיס הקטן.



51 המיתר AB הוא קוטר במעגל שרדיוסו R ו-AD הוא מיתר.

ממשיכים את המיתר BD ומעבירים משיק מהנקודה A.

המשיק והמשך המיתר נגשים בנקודה C.

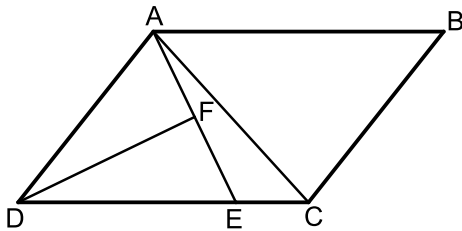
מסמנים: $\angle BAD = \alpha$.

א. הבע באמצעות α ו- R את שטח המשולש ABD.

ב. הבע באמצעות α ו- R את שטח המשולש ACD.

ג. מצא את α אם ידוע כי שטח המשולש ABD

קטן פי 4 משטח המשולש ACD.



52 המרובע ABCD הוא מקבילית.

הקטע AE מקצה על הצלע DC קטעים

המקיימים: $3CE = DE$.

מעבירים תיכון DF לצלע AE במשולש ADE.

ידוע כי: $\angle ADF = \angle CDF = \alpha$.

מסמנים: $CE = k$.

א. הבע באמצעות k ו- α את אורך הקטע AE.

ב. מעבירים את האלכסון AC.

הבע באמצעות k ו- α את היקף המשולש ACE.

ג. היקף המשולש ACE הוא $4.5k$. מצא את α .

תשובות סופיות:

$$(25) \quad S = 75.801 \text{ סמ"ר} \quad \text{א.} \quad S = 8.641 \text{ סמ"ר} \quad \text{ב.}$$

$$(26) \quad S = 16 \text{ סמ"ר}$$

$$S_{ABCD} = \frac{m^2 \tan^2 \alpha \sin 45^\circ \cos \alpha}{2 \sin(\alpha + 45^\circ)} \quad (27)$$

$$(28) \quad \text{א.} \quad \sqrt{\frac{2S}{\sqrt{27}}} \approx 0.62S \quad \text{ב.} \quad \frac{2}{3}S$$

$$(29) \quad \text{א.} \quad \frac{k}{2 \sin \frac{\alpha}{2}} \quad \text{ב.} \quad 44.4^\circ, 67.78^\circ, 67.78^\circ \quad \text{ג.} \quad S = 37.18$$

$$(30) \quad \text{א.} \quad DE = \sqrt{1.6} = 1.26 \quad \text{ב.} \quad R = 2 \quad \text{ג.} \quad S = 21.48$$

$$(31) \quad \text{א.} \quad DC = \frac{m \sin(\alpha + \beta)}{\sin \beta} \quad \text{ב.} \quad AB = \frac{m \sin(\alpha + \beta)}{3 \sin \beta} \quad \text{ג.} \quad S_{ABCD} = 31.2$$

$$(32) \quad \text{א.} \quad 12.75 \text{ ס"מ} \quad \text{ב.} \quad 14.19 \text{ ס"מ} \quad \text{ג.} \quad 63.05 \text{ ס"מ}$$

$$(33) \quad \text{א.} \quad \frac{k \tan \alpha}{\tan 2\alpha} \quad \text{ב.} \quad \frac{k^2 \tan \alpha \sin 2\alpha}{2 \tan^2 2\alpha} \quad \text{ג.} \quad S = 7.754 \text{ ס"מ}$$

$$(34) \quad \text{א.} \quad \frac{k^2 \sin \alpha \sin \beta}{2 \sin(\alpha + \beta)} \quad \text{ב.} \quad \frac{2k^2 \sin \alpha \sin \beta}{\sin(\alpha + \beta)}$$

$$(35) \quad \text{א.} \quad 109.1^\circ \quad \text{ב.} \quad S = 86.6$$

$$(36) \quad \text{א.} \quad 7 \text{ ס"מ} \quad \text{ב.} \quad 34.48 \text{ סמ"ר}$$

$$(37) \quad \text{א.} \quad R = \frac{k}{2 \sin^2 40} = 1.21k \quad \text{ב.} \quad S = \frac{k^2 \sin 10}{2 \sin 50 \sin^3 40} \quad \text{ג.} \quad k = 6$$

$$(38) \quad \text{א.} \quad 40.72^\circ \quad \text{ב.} \quad S = 12.52$$

$$(39) \quad \text{א.} \quad 128.32^\circ; 51.68^\circ \quad \text{ב.} \quad 1.27m \sin \alpha \quad \text{ג.} \quad \frac{0.35m^2 \sin^2 \alpha \sin(128.32 - \alpha)}{\sin(25.84 + \alpha)}$$

$$(40) \quad \text{א.} \quad BD = \frac{k \sin 20}{\sin 100} \quad \text{ב.} \quad k = 7$$

$$(41) \quad \text{א.} \quad 5 \text{ ס"מ} \quad \text{ב.} \quad S = 172.77$$

$$(42) \quad \text{א.} \quad BC = 3 \text{ ס"מ} \quad \text{ב.} \quad AB = 7 \text{ ס"מ} \quad \text{ג.} \quad S = 18.18 \text{ סמ"ר} \quad \text{ד.} \quad R = \sqrt{\frac{37}{3}}$$

ב.ii. $45^\circ, 135^\circ$

(43) ב.i. $R = a\sqrt{1 + \frac{\sqrt{2}}{2}} \approx 1.3a$

ג. $S = 14.4$ סמ"ר

(44) א. $\cos \sphericalangle BCD = \frac{a^2 - 5b^2}{a^2 + 3b^2}$

ב. $S = 36\sqrt{3}$ סמ"ר

(45) א. $S = R^2 \tan 2\alpha$

ב. $BE = 7.75$

(48) א. $58^\circ, 58^\circ, 64^\circ$

ב. $\alpha = 22.5^\circ$

(49) א. $S = 2R^2 \sin \alpha \cos \beta \sin(90^\circ - \alpha + \beta)$

ב. $\gamma = 75^\circ$

(50) א. $\frac{b \sin(135^\circ - \gamma)}{\sin 45^\circ}, \frac{b \sin(\gamma - 45^\circ)}{\sin 45^\circ}$

ג. $\alpha = 26.56^\circ$

ב. $S = \frac{2R^2 \cos^3 \alpha}{\sin \alpha}$

(51) א. $S = R^2 \sin 2\alpha$

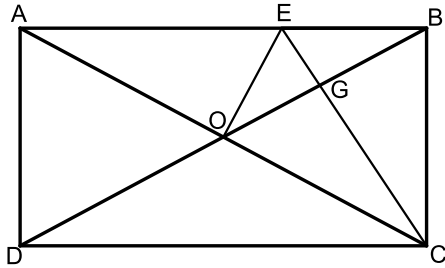
ב. $P_{ACE} = k + 6k \sin \alpha + k\sqrt{25 - 24 \cos 2\alpha}$

(52) א. $AE = 6k \sin \alpha$

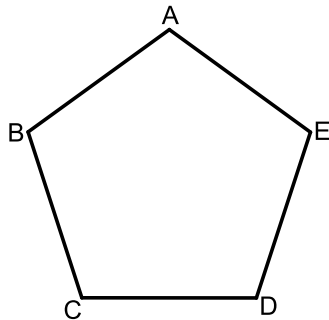
ג. $\alpha = 14.47^\circ$

שאלות המשלבות ידע בגיאומטריה:

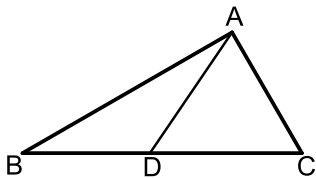
שאלות:



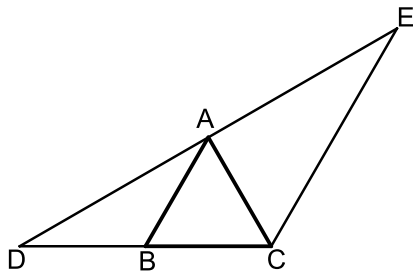
- 53) המרובע ABCD הוא מלבן.
מעבירים את האלכסונים AC ו-BD.
הנקודה E נמצאת על הצלע AB של המלבן ומחלקת אותה כך ש- $2BE = AE$.
ידוע כי הקטע OE מאונך לאלכסון AC ושווה ל-BE.
הקטע CE חותך את האלכסון BD בנקודה G.
א. הוכח כי הקטע CE מאונך לאלכסון BD.
ב. הוכח כי מתקיים: $4GE = AE$.
ג. נתון כי שטח המשולש BEG הוא 5 סמ"ר.
חשב את שטח המלבן ABCD.



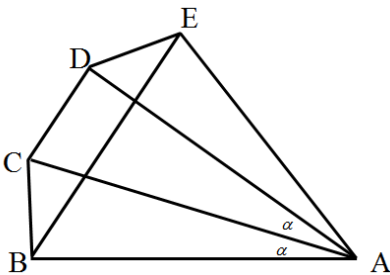
- 54) באיור שלפניך נתון מחומש משוכלל ACBDE (כל זוויותיו הן 108°) בעל אורך צלע α .
א. הבע באמצעות α את אלכסון המחומש AD.
ב. הבע באמצעות α את רדיוס המעגל החוסם את המחומש.
ג. הבע באמצעות α את שטח המחומש.
ד. אורך רדיוס המעגל החוסם את המחומש הוא 6 ס"מ.
חשב את שטח המחומש.



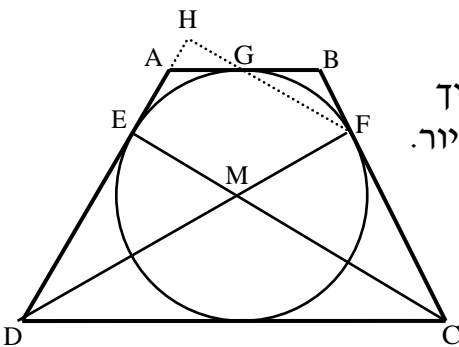
- 55) במשולש ABC הזווית C היא 60° .
מעבירים את הקטע AD כך שנוצרים המשולשים ABD ו-ACD.
ידוע כי רדיוס המעגל החוסם את המשולש ACD הוא: $R_1 = \sqrt{3}$ ס"מ.
כמו כן רדיוס המעגל החוסם את המשולש ABD הוא: $R_2 = 3$ ס"מ.
א. הוכח כי המשולש ABC הוא ישר זווית.
ב. היקף המשולש ABC הוא: $12 + 4\sqrt{3}$ ס"מ = P.
חשב את שטח המשולש.



- (56)** המשולש ABC הוא שווה צלעות. הקטע DE עובר דרך הקודקוד A כך שנוצרים שני משולשים ABD ו-ACE. ידוע כי AC חוצה את זווית DCE במשולש DCE.
- הוכח: $AB \parallel CE$.
 - הוכח: $BC \cdot DE = DC \cdot AE$.
 - נתון: $DC = 8$ ס"מ וכי: $AC \perp DE$.
- חשב את שטח המשולש DCE.
 - חשב את שטח המשולש ABD.

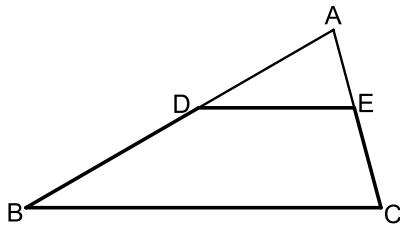


- (57)** מהנקודה A מעבירים את הקטעים AB, AC, AD ו-AE כך שמתקיים: $\angle BAC = \angle CAD = \alpha$ ו- $AB = AE$. מעבירים את האלכסון BE במחומש ABCDE מתקיים: $BE \parallel CD$. ידוע כי המרובע BCDE הוא בר חסימה.
- הוכח כי המרובע BCDE הוא טרפז שווה שוקיים.
 - נתון כי המשולש ACD הוא ש"ש ($AC = AD$). הוכח כי: $\triangle ABD \cong \triangle ACE$.
 - ידוע כי: $\angle ADC = 3\alpha + 2.5$ ו- $\angle ADE = 3\alpha - 10$. הוכח כי משולש ADE הוא ישר זווית.
 - נסמן: $AB = m$.
- הבע באמצעות m את צלעות הטרפז BCDE.
 - הבע באמצעות m את שטח המחומש ABCDE.
 - מצא את m אם ידוע כי שטח המחומש ABCDE הוא 46.284 סמ"ר. (עגל למספר שלם).



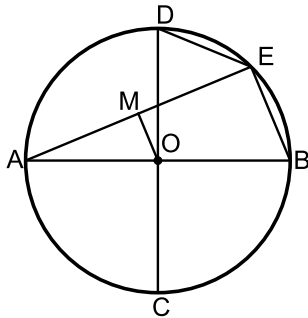
- (58)** הטרפז ABCD הוא שווה שוקיים. חוסמים מעגל בתוך הטרפז אשר משיק לו בנקודות E, F ו-G כמתואר באיור. הקטעים DF ו-CE חוצים את זוויות הטרפז ונחתכים בנקודה M.
- הוכח כי הנקודה M היא מרכז המעגל החסום.
 - חשב את זוויות הטרפז.
 - ממשיכים את GF ואת AD כך שהם נפגשים בנקודה H.

חשב את היחס $\frac{EM}{FH}$.

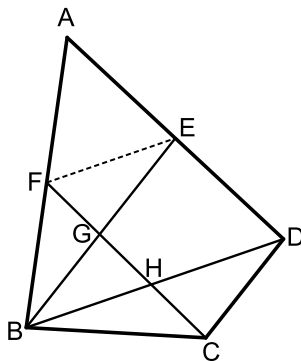


- (59)** המרובע BDEC הוא טרפז $BC \parallel DE$. המשכי השוקיים BD ו-CE נפגשים בנקודה A כך שהמשולש ABC הוא שווה שוקיים ($AB = BC$). נתון: $AB = 18$ ס"מ, $\angle ADE = 30^\circ$.
- סמן את אורך הבסיס DE ב- x . ואת שטח הטרפז BDEC ב- S . הבע את S באמצעות x .
 - על הקטע AD בונים ריבוע. ידוע כי שטחו קטן ב-1 סמ"ר משטח הטרפז BDEC.

חשב את היחס: $\frac{S_{ADE}}{S_{ABC}}$.



- (60)** במעגל שמרכזו O מעבירים את הקטרים AB ו-CD המאונכים זה לזה. E היא נקודה על היקף המעגל המקיימת: $BE + DE = 15$ ס"מ. מעבירים את המיתר AE. הקטע OM מאונך למיתר AE ושווה למיתר DE.
- הוכח כי המרובע OMEB הוא טרפז ישר זווית.
 - מצא את אורך המיתר BE.
 - נתון כי שטח הטרפז הוא 90 סמ"ר. מצא את רדיוס המעגל.
 - חשב את זווית B.



- (61)** BD הוא אלכסון במרובע הבר-חסימה ABCD. הנקודות E ו-F הן בהתאמה אמצעי הצלעות AD ו-AB במרובע. מעבירים את הקטעים BE ו-CF כך ש- $BE \parallel CD$. נתון כי הזוויות $\angle A$ ו- $\angle BFE$ משלימות ל- 180° .
- הוכח: $\triangle ABCD \sim \triangle BFE$.
 - נתון כי: $BE = 7.5$ וכי: $GE - HD = 17 \frac{1}{15}$. חשב את אורך הקטע FE.
 - נתון כי רדיוס המעגל החוסם את המשולש BED הוא: $R = 4.001$ ס"מ. מצא את זווית $\angle EBD$.

תשובות סופיות:

(53) ג. 120 סמ"ר

(54) א. 1.618α

(55) ב. $S = 8\sqrt{3}$

(56) ג. i. $S_{CDE} = 16\sqrt{3}$

ג. ii. $S_{ABD} = 4\sqrt{3}$

(57) ד. i. $BC = 0.4663m$, $DE = 0.4663m$, $CD = 0.4776m$, $BE = 1.2175m$

(62) ד. ii. $0.7232m^2$

ד. iii. $m = 8$ ס"מ

ג. $\frac{2}{3}$

(58) ב. 60° , 120°

ב. $\frac{S_{ADE}}{S_{ABC}} = \frac{16}{81}$

(59) א. $S = 81 - 0.25x^2$

ג. $R = 13$

(60) ב. $BE = 10$

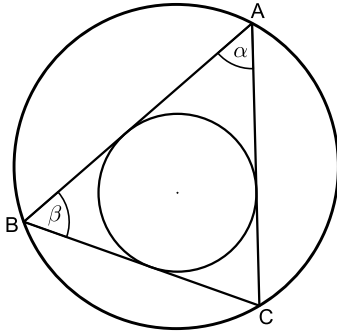
ד. $\sphericalangle B = 67.38^\circ$

ג. 16.73°

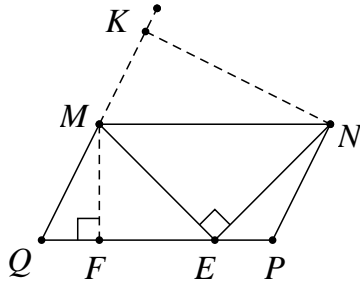
(61) ב. $FE = 4$

שאלות מסכמות:

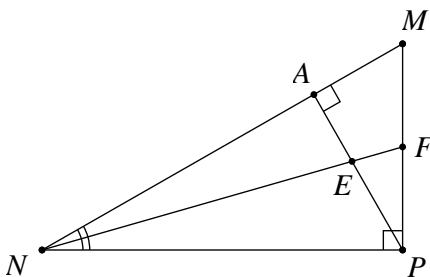
שאלות:



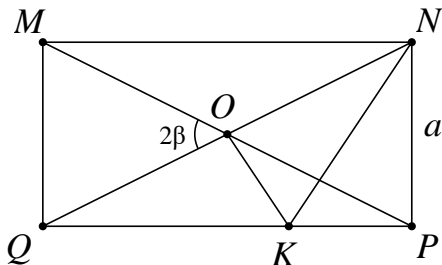
- (1) המשולש ABC חסום מעגל שרדיוסו R . נתון כי $\angle A = \alpha$, $\angle B = \beta$.
 א. הבע את רדיוס המעגל החסום במשולש בעזרת R , α , β .
 ב. נתון כי: $\alpha = \beta = 60^\circ$. חשב את רדיוס המעגל החסום במשולש בעזרת R .



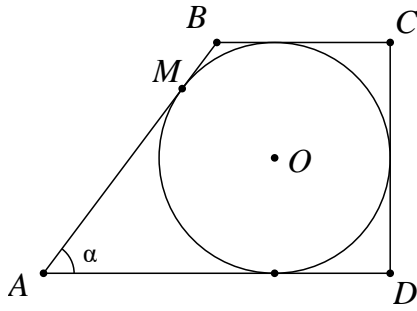
- (2) במקבילית MNQP נקודה E נמצאת על הצלע PQ כך ש- $\angle MEN = 90^\circ$ (ראה ציור). נתון: 12 ס"מ MQ , $\angle MNE = 40^\circ$, $\angle MQP = 70^\circ$. מצא את הגובה MF, ואת הגובה NK.



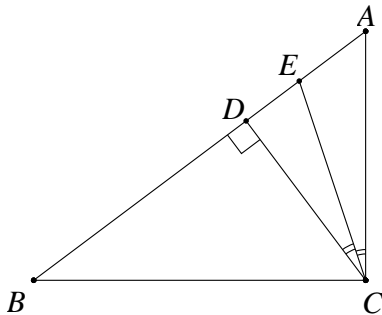
- (3) במשולש ישר-זווית MNP, ($\angle P = 90^\circ$) PA הוא גובה ליתר ו-NF חוצה את הזווית $\angle MNP$.
 PA ו-NF נחתכים בנקודה E (ראה ציור). נתון: 24 ס"מ NP , $\angle MNP = 40^\circ$.
 א. מצא את אורך הקטע NA.
 ב. מצא את אורך הקטע EF.



- (4) אלכסוני המלבן MNQP נחתכים בנקודה O. מנקודה O מעלים אנך ל-QN החותך את QP בנקודה K (ראה ציור). נתון: $NP = a$, $\angle MOQ = 2\beta$.
 א. הבע את אורך הקטע OK באמצעות β ו- a .
 ב. הבע את היקף המשולש NOK באמצעות β ו- a .



- (5) בטרפז ישר-זווית ABCD חסום מעגל שמרכזו O. הנקודה M היא נקודת ההשקה של המעגל עם השוק AB. נתון: $AM = 12$ ס"מ, $\angle BAD = \alpha$.
- א. הבע את רדיוס המעגל בעזרת α .
 ב. הבע את היקף הטרפז בעזרת α .

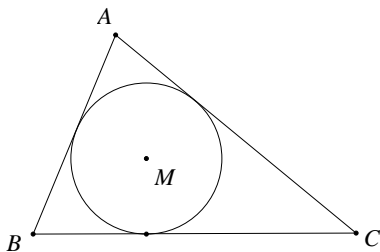


- (6) במשולש ישר-זווית ABC (ראה ציור) נתון: $BC = 8$ ס"מ, $\angle ACB = 90^\circ$, $\angle ABC = \beta$. CD הוא הגובה ליתר. CE הוא חוצה-הזווית $\angle ACD$. הבע את אורך הקטע AE באמצעות β .

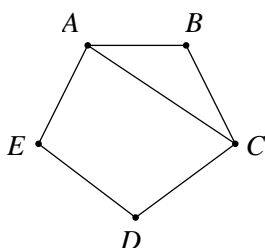
- (7) נתון מעגל שרדיוסו R. מצולע משוכלל בעל 9 צלעות חוסם את המעגל הזה. מצולע משוכלל אחר בעל 9 צלעות חסום בתוך מעגל זה. חשב את היחס בין שטח המצולע החוסם את המעגל לשטח המצולע החסום במעגל זה.

- (8) $\triangle ABC$ הוא משולש שווה-שוקיים ($AB = AC$) שאורך בסיסו 12 ס"מ. AD הוא הגובה לבסיס BC ו-CE הוא הגובה לשוק AB. שני הגבהים נחתכים בנקודה O. נתון: $\angle ABC = \alpha$ ($\alpha > 45^\circ$).

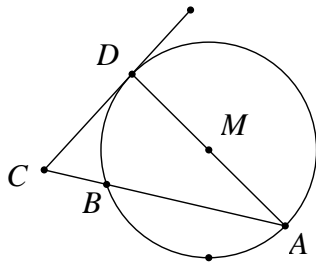
- א. הבע את היחס $AO : DO$ באמצעות α .
 ב. הראה כי בעבור $\alpha = 60^\circ$ הביטוי שמצאת בסעיף א' מתאים לתכונות הגאומטריות של משולש שווה-צלעות.



- (9) במשולש ABC חסום מעגל שמרכזו M ורדיוסו r (ראה ציור). נתון: $\angle B = 62^\circ$, $\angle C = 46^\circ$.
- א. הבע באמצעות r את אורך הצלע BC.
 ב. נתון: $BC = 16$ ס"מ. מצא את r.



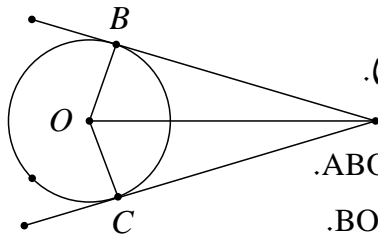
- (10) במחומש משוכלל ABCDE (ראה ציור) אורך האלכסון AC הוא 15 ס"מ. חשב את שטח המחומש.



11 מנקודה C הנמצאת מחוץ למעגל שמרכזו M ורדיוסו R מעבירים משיק CD וחוטך CBA למעגל (ראה ציור).

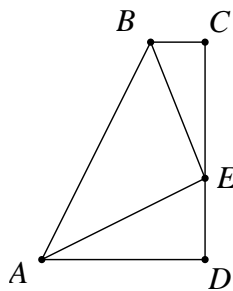
נתון: $CD = \frac{3}{5}R$.

- א. מצא את זוויות המשולש CAD.
- ב. הבע באמצעות R את שטח המשולש BCD.



12 מנקודה A, הנמצאת מחוץ למעגל שמרכזו O, יוצאים שני משיקים למעגל, AB ו-AC (ראה ציור). נתון: $\angle BAC = 2\alpha$, $AO = 10$ ס"מ.

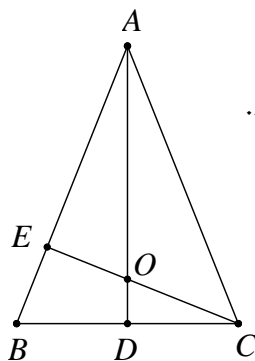
- א. הבע באמצעות α את S_1 , שטח המרובע ABOC.
- ב. הבע באמצעות α את S_2 , שטח המשולש BOC.
- ג. הראה שאם $\alpha = 30^\circ$, אזי: $S_1 = 4 \cdot S_2$.



13 ABCD הוא טרפז ישר-זווית ($\angle C = \angle D = 90^\circ$). נקודה E נמצאת על הצלע DC (ראה ציור). נתון: $\angle AEB = 90^\circ$, $AE = BE = k$, ו- $\angle CBE = \beta$. הבע באמצעות k ו- β את שטח הטרפז.

14 ענה על השאלות הבאות:

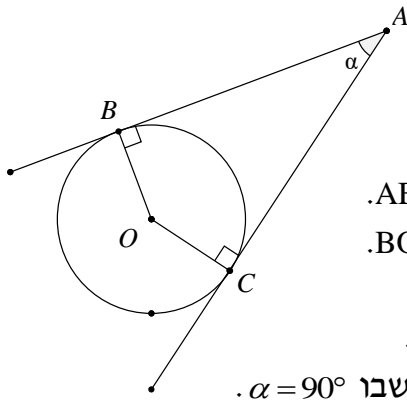
- א. במעושר משוכלל, ששטחו 100 סמ"ר, חוסמים מעגל. מצא את רדיוס המעגל החסום במעושר.
- ב. מעושר משוכלל חסום במעגל, שאת רדיוסו מצאת בסעיף א'. מצא את שטח המעושר המשוכלל הזה.



15 ABC הוא משולש שווה-שוקיים ($AB = AC$) שבו זווית הראש היא זווית חדה. נתון כי זווית הבסיס היא β ואורך הבסיס BC הוא 2α . AD הוא הגובה לבסיס BC ו-CE הוא הגובה לשוק AB. הגבהים AD ו-CE נפגשים בנקודה O (ראה ציור).

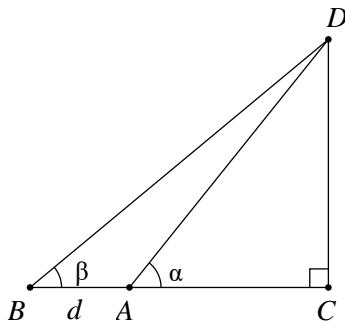
- א. הבע באמצעות α ו- β את אורכי הקטעים CO ו-CE.
- ב. הבע באמצעות β את היחס $\frac{CO}{CE}$.

ג. חשב את היחס שמצאת בסעיף ב' כאשר $\beta = 60^\circ$, והסבר מהי המשמעות הגאומטרית של התוצאה שקיבלת.

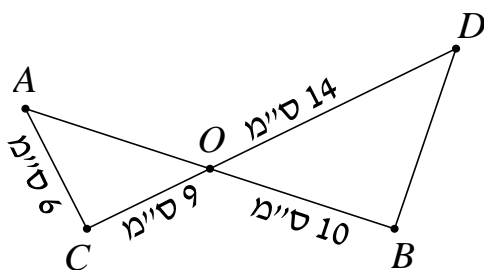


16 מנקודה A יוצאים שני משיקים למעגל שמרכזו O, שאורכם m (כלומר: $AB = AC = m$). נקודות ההשקה הן B ו-C, והזווית שבין המשיקים היא $\angle BAC = \alpha$ (ראה ציור).

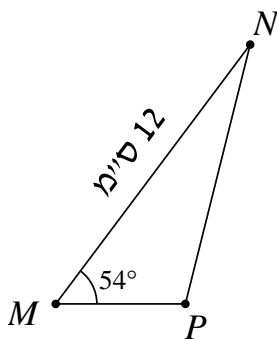
- הבע באמצעות m ו- α את שטח המשולש ABC.
- הבע באמצעות m ו- α את שטח המשולש BOC.
- הבע באמצעות α את היחס שבין שטחו של המשולש BOC לבין שטחו של המשולש ABC.
- בדוק את תשובתך לסעיף ג' למקרה המיוחד שבו $\alpha = 90^\circ$.



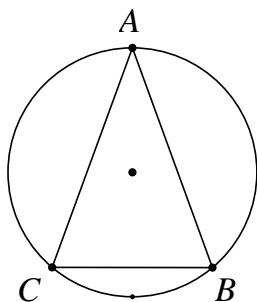
17 במשולש ישר-זווית DAC נתון $\angle DAC = \alpha$. מאריכים את הניצב AC כך ש- $AB = d$. נתון כי: $\angle DBA = \beta$ (ראה ציור). סמן: $AC = x$. הבע את x באמצעות d , α ו- β .



18 הקטעים AB ו-CD נחתכים בנקודה O. נתון כי: $\angle OAC = 60^\circ$, $AC = 6$ ס"מ, $CO = 9$ ס"מ, $OB = 10$ ס"מ, $OD = 14$ ס"מ. חשב את $\angle ODB$.

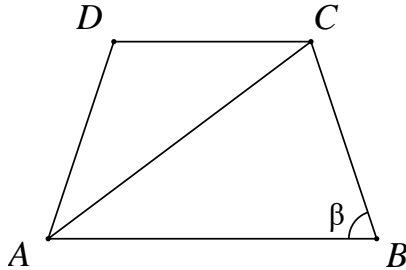


19 במשולש MNP גודל הזווית M הוא 54° . נתון כי אורך הצלע MN הוא 12 ס"מ (ראה ציור), והצלע NP ארוכה ב-7 ס"מ מהצלע MP. א. חשב את אורך הצלע NP. ב. PA הוא תיכון לצלע MN. חשב את שטח המשולש PAN.

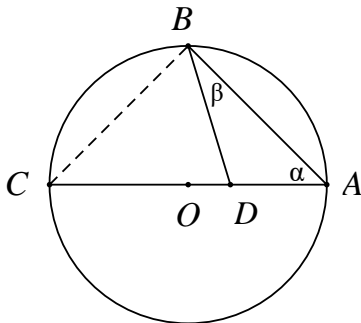


20 המשולש השווה-שוקיים ABC ($AB = AC$) חסום במעגל (ראה ציור). נתון: $\angle ABC = \beta$. כמו כן ידוע שאורך רדיוס המעגל הוא 20 ס"מ. א. הבע בעזרת β את שטח המשולש ABC. ב. חשב את שטח המשולש ABC בעבור $\beta = 45^\circ$.

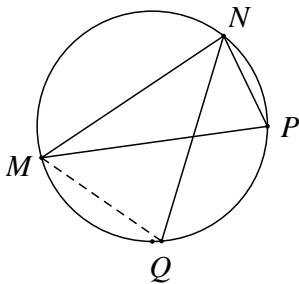
(21) במשולש ABC הזווית $\sphericalangle C$ היא בת 60° , אורך הצלע AB הוא $\sqrt{13}$ ס"מ, והיקף המשולש הוא $7 + \sqrt{13}$ ס"מ. חשב את שטח המשולש.



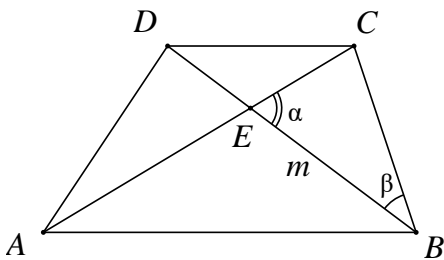
(22) בטרפז שווה-שוקיים ABCD ($AD = BC$) אורך הבסיס הגדול AB שווה לאורך האלכסון. זווית הבסיס היא β ($\beta > 60^\circ$), (ראה ציור). הבע באמצעות β את היחס שבין שטח המשולש ACD לשטח המשולש ABC.



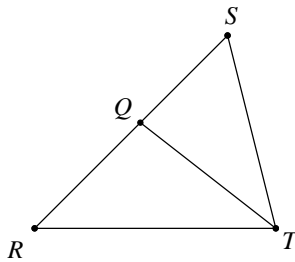
(23) הקודקודים A ו-B של המשולש ABD נמצאים על היקף מעגל שאורך רדיוסו 12 ס"מ ומרכזו O. הקודקוד D של המשולש ABD נמצא על הרדיוס OA. א. הבע בעזרת α ו- β את שטח המשולש ABD. ב. הבע בעזרת α ו- β את היחס שבין שטח המשולש ABC לשטח המשולש ABD.



(24) משולש MNP חסום במעגל. המיתר NQ חוצה את הזווית $\sphericalangle MNP$. נתון: $\sphericalangle MPN = 70^\circ$, $\sphericalangle MNP = 80^\circ$, $NP = 12$ ס"מ. חשב את אורך המיתר MQ.



(25) נתון טרפז ABCD ($AB \parallel CD$). הנקודה E היא נקודת המפגש של אלכסוני הטרפז. נתון: $BE = m$, $DC = BC$, $\sphericalangle CEB = \alpha$, $\sphericalangle CBD = \beta$ (ראה ציור). הבע את אורכי בסיס הטרפז: AB ו-CD באמצעות m , α ו- β .



26 במשולש RST נתון: QT הוא חוצה-הזווית $\angle RTS$

(ראה ציור), $RQ = \sqrt{2}$, $QS = m$,

$\angle TRQ = 45^\circ$, $\angle RST = \alpha$.

א. הבע את $\sin \alpha$ באמצעות m .

ב. נתון כי: $m = \frac{2}{\sqrt{3}}$.

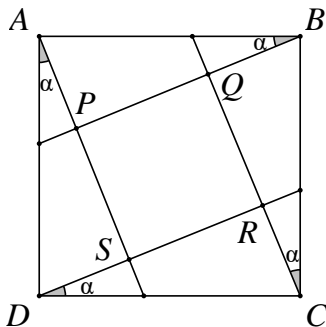
חשב את זוויות המשולש RST.

27 במשולש שווה שוקיים ABC ($AB = AC$) התיכון לשוק שווה באורכו לרדיוס המעגל החוסם את המשולש. חשב את זווית הבסיס של המשולש.

28 נתון משולש שצלעותיו t , $2t$, kt

א. לאיזה ערכים של הקבוע k המשולש הוא קהה זווית?

ב. נתון $k = \sqrt{7}$. הבע ע"י t את אורך חוצה הזווית הקהה.



29 בתוך הריבוע ABCD נתון, העבירו ארבעה

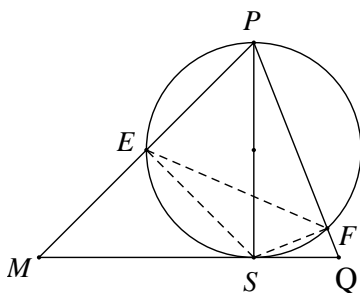
קטעים היוצרים את אותה זווית α

עם צלעות הריבוע כך שהתקבל ריבוע

פנימי PQRS.

א. הוכח כי: $\frac{PQ}{AB} = \cos \alpha - \sin \alpha$.

ב. לאיזו זווית α מתקיים: $PR = AB$?



30 PS הוא גובה במשולש PMQ (ראה ציור).

נתון $PS = h$, $\angle MPS = \alpha$, $\angle SPQ = \beta$.

א. הבע את שטח המשולש PMQ

באמצעות h , α ו- β .

ב. מעגל שקוטרו PS חותך את

הצלעות PM ו-PQ בנקודות E

ו-F בהתאמה (ראה ציור).

i. הבע באמצעות α ו- β את $\angle ESF$.

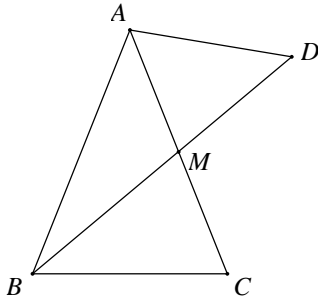
ii. הבע באמצעות α ו- β את היחס בין

שטח המשולש ESF לשטח המשולש PMQ.

31 במשולש ABC הצלעות הן a , b ו- c והזוויות שמונחות מולן הן: α , β ו- γ בהתאמה.

א. הבע את אורך התיכון m_a (התיכון לצלע a) באמצעות הצלעות b ו- c והזווית α .

ב. בדוק את הנוסחה שמצאת למקרה שבו המשולש ABC הוא שווה צלעות.



32 במשולש שווה שוקיים ABC ($AB = AC$),

BM הוא תיכון לשוק (ראה ציור).

נתון כי רדיוס המעגל החוסם את המשולש ABC הוא 10 ס"מ וכן נתון ש- $\angle BAC = 50^\circ$.

א. מצא את גודל הזווית $\angle BMC$.

ב. ממשיכים את BM עד לנקודה D,

כך שרדיוס המעגל החוסם את המשולש ABD הוא 14 ס"מ.

מצא את שטח המשולש AMD.

33 משולש שווה שוקיים BCE ($BC = BE$) חסום במעגל שרדיוסו R .

זווית הבסיס של המשולש BCE היא α .

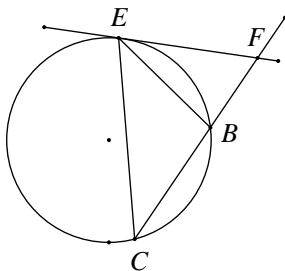
בנקודה E העבירו משיק למעגל החותך את

המשך השוק BC בנקודה F (ראה ציור).

א. בטא את שטח המשולש BEF באמצעות R ו- α .

ב. מצא את הערך של α שבעבורו שטח

המשולש BCE שווה לשטח המשולש BEF.



34 בטרפז BCDE ($BC \parallel ED$) אורך הבסיס BC הוא 12 ס"מ.

הזווית שבין הבסיס BC לשוק DC היא 80° .

אורך האלכסון BD הוא 16 ס"מ, והוא חוצה את הזווית $\angle CBE$.

חשב את היקף הטרפז.

35 במשולש ישר-זווית APD מחלקים את הזווית הישרה $\angle P$

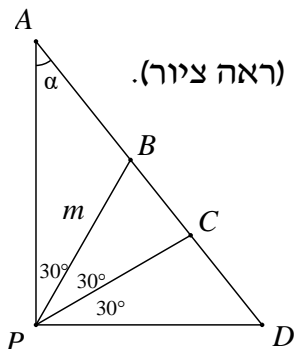
לשלוש זוויות שוות, כלומר $\angle APB = \angle BPC = \angle CPD = 30^\circ$ (ראה ציור).

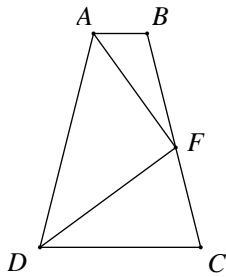
נתון כי: $PB = m$, $\angle PAD = \alpha$.

א. היעזר במשפט הסינוסים,

והבע את AB, AC, BD ו-CD באמצעות m ו- α .

ב. הוכח כי: $\frac{AC \cdot BD}{AB \cdot CD} = 3$



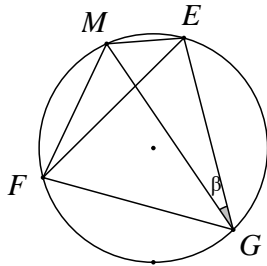


(36) בטרפז שווה שוקיים $ABCD$ ($AD = BC$, $AB \parallel DC$),

F היא נקודה על השוק BC , כך ש- DF חוצה את הזווית $\sphericalangle CDA$ ו- AF חוצה את הזווית $\sphericalangle DAB$ (ראה ציור).

נתון: $\sphericalangle FAB = \beta$, $AB = b$.

הבע באמצעות b ו- β את אורך הבסיס DC .



(37) משולש שווה צלעות EFG חסום במעגל שרדיוסו R .

M היא נקודה על המעגל. נתון: $\sphericalangle MGE = \beta$ (ראה ציור).

א. הוכח כי: $ME + MF = MG$.

ב. אם $ME = R$ מה תוכל לומר על $\sphericalangle MGE$?

(38) משולש שווה שוקיים ADE ($AD = AE$) חסום במעגל שרדיוסו R .

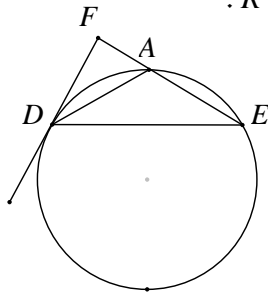
ישר המשיק למעגל בנקודה D חותך את המשך הצלע AE בנקודה F (ראה ציור).

נתון: $\sphericalangle AEF = \alpha$ ($60^\circ < \alpha < 180^\circ$).

א. הבע את שטח המשולש ADF באמצעות R ו- α .

ב. הבע באמצעות α את היחס שבין שטח המשולש ADE ובין שטח המשולש ADF .

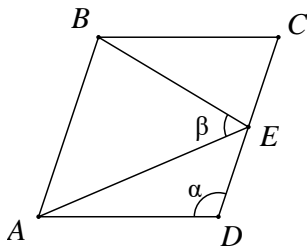
ג. חשב את α אם שטח המשולש ADE שווה לשטח המשולש ADF .



(39) במעוין $ABCD$ הנקודה E היא אמצע הצלע CD .

נתון: $\sphericalangle AEB = \beta$, $\sphericalangle ADC = \alpha$ (ראה ציור).

הוכח כי: $\cos \beta = \frac{3}{\sqrt{25 - 16 \cos^2 \alpha}}$



(40) נתון טרפז $ABCD$ ונתון מעגל. השוק DC הוא קוטר המעגל.

השוק AB משיקה למעגל, והבסיסים AD ו- BC משיקים גם הם למעגל בנקודות D ו- C בהתאמה (ראה ציור).

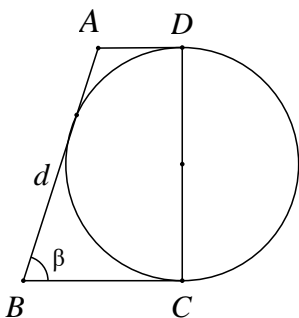
נתון כי: $AB = d$, $\sphericalangle B = \beta$.

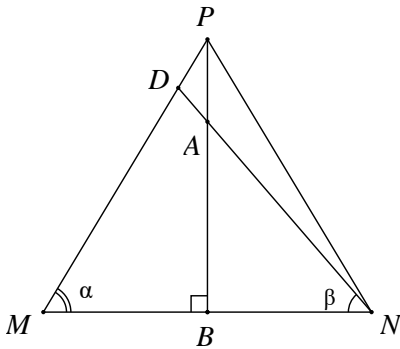
א. הבע באמצעות d את סכום בסיסיו של הטרפז.

ב. הבע באמצעות d ו- β את היקף הטרפז ואת השטח של הטרפז.

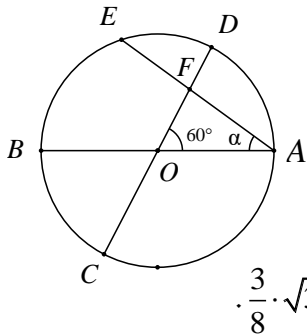
ג. נתון שהיקף הטרפז 25 ס"מ ושטחו 25 סמ"ר.

חשב את הזווית החדה β .





- (41)** במשולש שווה שוקיים PMN ($PM = PN$),
 A היא נקודה על הגובה PB , כך ש- $PA = \frac{1}{5} \cdot PB$.
 הישר NA חותך את השוק PM בנקודה D (ראה ציור).
 נתון: $\angle DNB = \beta$, $\angle DNM = \alpha$, ו- $BN = \alpha$.
 א. חשב את היחס $\tan \beta : \tan \alpha$.
 ב. חשב את היחס $PM:DM$.



- (42)** במעגל שמרכזו O ורדיוסו R מעבירים שני
 קטרים AB ו- CD הנחתכים בזווית של 60° .
 מיתר AE , היוצר זווית α עם הקוטר AB ,
 חותך את הקוטר CD בנקודה F (ראה ציור).
 א. הבע את שטח המשולש ACF באמצעות R ו- α .
 ב. הוכח שכאשר $\alpha = 30^\circ$, שטח המשולש ACF הוא $\frac{3}{8} \cdot \sqrt{3} \cdot R^2$.

תשובות סופיות:

$$\frac{1}{2}R \quad \text{ב.} \quad r = \frac{2R \sin(\alpha + \beta) \tan \frac{\beta}{2} \tan \frac{\alpha}{2}}{\tan \frac{\alpha}{2} + \tan \frac{\beta}{2}} = 4R \sin \frac{\alpha}{2} \sin \frac{\beta}{2} \cos \frac{\alpha + \beta}{2} \quad \text{א.} \quad (1)$$

$$KN = 21.52 \text{ ס"מ} , MF = 11.28 \text{ ס"מ} \quad (2)$$

$$EF = 5.975 \text{ ס"מ} \quad \text{ב.} \quad NA = 18.385 \text{ ס"מ} \quad \text{א.} \quad (3)$$

$$\frac{a}{2 \sin \beta} \cdot \left[1 + \tan \beta + \frac{1}{\cos \beta} \right] \quad \text{ב.} \quad OK = \frac{a}{2 \cos \beta} \quad \text{א.} \quad (4)$$

$$24 \cdot \left(1 + \tan \frac{\alpha}{2} \right)^2 \quad \text{ב.} \quad 12 \cdot \tan \frac{\alpha}{2} \quad \text{א.} \quad (5)$$

$$AE = 8 \sin \beta \cdot \left[\tan \beta - \tan \left(\frac{1}{2} \beta \right) \right] = 8 \tan \beta \cdot \tan \left(\frac{1}{2} \beta \right) \quad (6)$$

$$2 \cdot \frac{\tan 20^\circ}{\sin 40^\circ} = \frac{1}{\cos^2 20^\circ} \approx 1.132 \quad (7)$$

$$-2 \cdot \frac{\tan \alpha}{\tan 2\alpha} = -\frac{\cos 2\alpha}{\cos^2 \alpha} = \tan^2 \alpha - 1 \quad \text{א.} \quad (8)$$

ב. מתקיים: $AO = 2 \cdot DO$ (מפגש הגבהים הוא גם מפגש התיכונים).

$$r = \frac{16}{\tan 59^\circ + \tan 67^\circ} \approx 3.98 \quad \text{ב.} \quad BC = r \cdot (\tan 59^\circ + \tan 67^\circ) \approx 4.02 \cdot r \quad \text{א.} \quad (9)$$

$$S = 147.86 \text{ סמ"ר} \quad (10)$$

$$S \approx 0.0495 \cdot R^2 \quad \text{ב.} \quad \sphericalangle C = 73.3^\circ , \sphericalangle D = 90^\circ , \sphericalangle A = 16.7^\circ \quad \text{א.} \quad (11)$$

$$S_1 = 100 \cdot \sin \alpha \cdot \cos \alpha = 50 \cdot \sin 2\alpha \quad \text{א.} \quad (12)$$

$$S_2 = 50 \cdot \sin^2 \alpha \cdot \sin(180^\circ - 2\alpha) = 50 \cdot \sin^2 \alpha \cdot \sin 2\alpha \quad \text{ב.}$$

$$\text{ב. 27 יח"ש.} \quad S = \frac{1}{2} k^2 \cdot (1 + 2 \sin \beta \cos \beta) \quad \text{א.} \quad (13)$$

$$S \approx 90.45 \text{ סמ"ר} \quad \text{ב.} \quad r \approx 5.548 \text{ ס"מ} \quad \text{א.} \quad (14)$$

$$\frac{CO}{CE} = \frac{1}{2 \sin^2 \beta} \quad \text{ב.} \quad CE = 2a \cdot \sin \beta , CO = \frac{a}{\sin \beta} \quad \text{א.} \quad (15)$$

ג. היחס הוא: $\frac{2}{3}$ (בדומה למפגש התיכונים במשולש)

$$S_{\Delta ABOC} = \frac{1}{2} m^2 \cdot \sin \alpha \cdot \tan^2 \frac{\alpha}{2} \quad \text{ב.} \quad S_{\Delta ABC} = \frac{1}{2} m^2 \cdot \sin \alpha \quad \text{א. (16)}$$

$$\text{ג. יחס השטחים: } \tan^2 \frac{\alpha}{2}$$

ד. במקרה זה ABOC הוא ריבוע, ויחס השטחים שווה ל-1 ($\tan^2 45^\circ = 1$).

$$AC = x = d \cdot \frac{\tan \beta}{\tan \alpha - \tan \beta} \quad (17)$$

$$\sphericalangle ODB \approx 44.7^\circ \quad (18)$$

$$S_{\Delta PAN} = 8.2 \text{ סמ"ר} \quad \text{ב.} \quad NP = 10.38 \text{ ס"מ} \quad \text{א. (19)}$$

$$S = 800 \cdot \sin^2 \beta \cdot \sin 2\beta \quad \text{א. (20)} \quad \text{ב. 400 סמ"ר}$$

$$S_{\Delta ABC} = 3 \cdot \sqrt{3} \approx 5.196 \text{ סמ"ר} \quad (21)$$

$$(22) \quad \text{יחס השטחים הוא: } 1 - 4 \cos^2 \beta = \left(\frac{-\sin 3\beta}{\sin \beta} \right) \quad \text{או כל תשובה שקולה.}$$

$$\frac{\sin(\alpha + \beta)}{\sin \beta \cdot \cos \alpha} \quad \text{ב.} \quad S_{\Delta ABD} = 288 \cdot \frac{\sin \alpha \cdot \cos^2 \alpha \cdot \sin \beta}{\sin(\alpha + \beta)} \quad \text{א. (23)}$$

$$MQ \approx 15.43 \text{ ס"מ} \quad (24)$$

$$DC = m \cdot \frac{\sin \alpha}{\sin(\alpha + \beta)}, \quad AB = m \cdot \frac{\sin \alpha}{\sin(\alpha - \beta)} \quad (25)$$

$$45^\circ, 60^\circ, 75^\circ \text{ או } 45^\circ, 120^\circ, 15^\circ \quad \text{ב.} \quad \sin \alpha = \frac{1}{m} \quad \text{א. (26)}$$

$$\alpha \approx 20.7 \quad (27)$$

$$\frac{2}{3} \cdot t \approx 0.667t \quad \text{ב.} \quad 1 < k < \sqrt{3} \text{ או } \sqrt{5} < k < 3 \quad \text{א. (28)}$$

$$\alpha = 15^\circ \quad (29)$$

$$\sphericalangle ESF = 180^\circ - (\alpha + \beta) \quad \text{ב. i.} \quad S_{\Delta MPQ} = \frac{1}{2} \cdot h^2 \cdot (\tan \alpha + \tan \beta) \quad \text{א. (30)}$$

$$S_{\Delta EFS} : S_{\Delta MPQ} = \frac{1}{4} \cdot \sin 2\alpha \cdot \sin 2\beta \quad \text{ב. ii.}$$

$$m_a = \frac{\sqrt{3}}{2} \cdot b \quad \text{ב.} \quad m_a = \frac{1}{2} \cdot \sqrt{b^2 + c^2 + 2 \cdot b \cdot c \cdot \cos \alpha} \quad \text{א. (31)}$$

$$S_{\Delta AMD} = 54.1 \text{ סמ"ר} \quad \text{ב.} \quad \sphericalangle BMC = 79.5^\circ \quad \text{א. (32)}$$

$$\alpha = 45^\circ \quad \text{ב.} \quad S_{\triangle BEF} = \frac{2R^2 \cdot \sin^3 \alpha \cdot \sin 2\alpha}{\sin 3\alpha} \quad \text{א. (33)}$$

$$P_{BCDE} = 51.09 \quad \text{(34)}$$

$$, BD = \frac{\sqrt{3} \cdot m}{2 \cdot \cos \alpha}, AB = \frac{m}{2 \cdot \sin \alpha}, AC = \frac{\sqrt{3} \cdot m \cdot \sin(30^\circ + \alpha)}{2 \cdot \sin(60^\circ + \alpha) \cdot \sin \alpha} \quad \text{א. (35)}$$

$$\text{ב. הוכחה.} \quad CD = \frac{m \cdot \sin(30^\circ + \alpha)}{2 \cdot \sin(60^\circ + \alpha) \cdot \cos \alpha}$$

$$DC = \frac{-b \cdot \tan \beta}{\tan 3\beta} \quad \text{(36)}$$

$$\text{ב. MG הוא קוטר במעגל. (37)}$$

$$\frac{S_{\triangle ADE}}{S_{\triangle ADF}} = -\frac{\cos(1.5\alpha)}{\cos(0.5\alpha)} \quad \text{ב.} \quad S_{\triangle ADF} = \frac{-2R^2 \cdot \cos^3 \frac{\alpha}{2} \cdot \sin \alpha}{\cos(1.5\alpha)} \quad \text{א. (38)}$$

$$\alpha = 90^\circ \quad \text{ג.}$$

$$S = \frac{1}{2} d^2 \cdot \sin \beta, P = 2d + d \sin \beta \quad \text{ב.} \quad AD + BC = d \quad \text{א. (40)}$$

$$\beta = 30^\circ \quad \text{ג.}$$

$$PM : DM = \frac{9}{8} = 1.125 \quad \text{ב.} \quad \tan \beta : \tan \alpha = \frac{4}{5} = 0.8 \quad \text{א. (41)}$$

$$.S = \frac{3R^2 \cdot \sin(30^\circ + \alpha)}{4 \cdot \sin(60^\circ + \alpha)} \quad \text{א. (42)}$$

מכינה במתמטיקה להנדסת מכונות

פרק 26 - גיאומטריה אנליטית - נקודה וישר

תוכן העניינים

1. מושגי יסוד בגיאומטריה אנליטית 420
2. משוואת הישר 424
3. מצבים הדדיים בין ישרים 429
4. מציאת משוואות ישר 431
5. שאלות יסודיות שונות עם משוואת הישר 432
6. נושאים מתקדמים עם משוואת הישר (ללא ספר) 438
7. חלוקת קטע ביחס נתון 438
8. מרחק נקודה מישר 439
9. מיקום נקודה ביחס לישר 441
10. מרחק בין ישרים מקבילים 443

מושגי יסוד בגיאומטריה אנליטית:

סיכום כללי:

נוסחאות כלליות:

- המרחק בין הנקודות $A(x_1, y_1)$ ו- $B(x_2, y_2)$ יחושב לפי: $d = \sqrt{(x_2 - x_1)^2 + (y_2 - y_1)^2}$.
- אמצע הקטע M שקצותיו הם: $A(x_1, y_1)$ ו- $B(x_2, y_2)$ הוא: $x_M = \frac{x_1 + x_2}{2}, y_M = \frac{y_1 + y_2}{2}$.

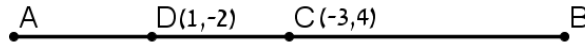
שאלות:

שאלות העוסקות באמצע קטע:

- 1) מצא את אמצעי הקטעים שקדקודיהם נתונים ע"י הנקודות A ו-B:
- א. $A(1, 4), B(5, -8)$ ב. $A(-3, 0), B(3, -2)$
- ג. $A(4, 5), B(-4, -5)$ ד. $A\left(\frac{1}{2}, \frac{3}{4}\right), B\left(7\frac{1}{2}, -2\right)$
- ה. $A(6, -1), B(-3, -1)$ ו. $A(4, 7), B(4, -12)$
- 2) נתון קטע AB שאמצעו בנקודה M.
- מצא את שיעורי נקודת הקצה B אם נתונים שיעורי הנקודות של A ושל M:
- א. $A(4, -2), M(2, 1)$ ב. $A(-6, -8), M(0, 0)$
- ג. $A(13, -11), M(4, -7)$ ד. $A\left(\frac{1}{3}, -\frac{4}{3}\right), M\left(\frac{2}{3}, -\frac{1}{3}\right)$
- 3) נתון משולש שווה שוקיים ABC שבו A הוא קדקוד הראש.
- ידוע כי שיעורי הקדקודים B ו-C הם $B(2, -4), C(6, 1)$.
- מעבירים תיכון AD לבסיס BC. מצא את שיעורי הנקודה D.
- 4) באיור שלפניך C היא נקודת האמצע של AB, ו-D היא נקודת האמצע של AC.
- ידוע כי: $A(-2, 1), B(6, 5)$. מצא את שיעורי הנקודה D.



- (5) באיור שלפניך C היא נקודת האמצע של AB, ו-D היא נקודת האמצע של AC. ידוע כי: $D(1, -2)$, $C(-3, 4)$. מצא את שיעורי הנקודות A ו-B.



- (6) הנקודות $A(2, -7)$, $B(-10, 4)$ ו- $C(6, 11)$ הן שלושה קדקודים של מקבילית ABCD. מצא את שיעורי הקדקוד הרביעי, D.

שאלות העוסקות במרחק בין שתי נקודות:

- (7) מצא את המרחק בין זוגות הנקודות הבאות:
- א. $A(4, 7)$, $B(-3, 7)$ ב. $A(6, 2)$, $B(1, 2)$
- ג. $A(-3, 10)$, $B(0, 6)$ ד. $A(6, -9)$, $B(1, 3)$
- ה. $A(4, 7)$, $B(13, -1)$ ו. $A(6, 6)$, $B(-9, -9)$
- (8) חשב את היקף המשולש ABC שקודקודיו הם: $A(3, -2)$, $B(4, 9)$, $C(0, 14)$.

- (9) נתונות נקודות $A(14, 4)$, $B(6, y)$ שמרחקן הוא 10 יחידות אורך. מצא את y .

- (10) נתונות נקודות $A(x, -12)$, $B(15, -2)$ שמרחקן הוא 26 יחידות אורך. מצא את x .

- (11) נתונה נקודה B ברביע השלישי, ששיעור ה- y שלה גדול פי 3 משיעור ה- x שלה ומרחקה מהנקודה $A(-4, 1)$ הוא 5. מצא את שיעורי הנקודה B.

- (12) במשולש שווה שוקיים ABC ($AB = AC$) ידוע כי אורכי השוקיים הוא $\sqrt{45}$ יחידות אורך. שיעורי הקדקוד A הם $(0, 4)$ ושיעורי ה- y של הקדקודים B ו-C הוא -2. מצא את קדקודי המשולש B ו-C (הנח B ברביע הרביעי).

- (13) אורך האלכסון AC במלבן ABCD הוא $d_{AC} = \sqrt{50}$ וידוע כי: $A(-3, -2)$, $B(-4, 1)$. מצא את היקף המלבן.

שאלות העוסקות בשיפוע בין שתי נקודות:**14** מצא את השיפוע בין זוגות הנקודות הבאים:

- א. $A(5,2)$, $B(4,1)$ ב. $A(3,-2)$, $B(-3,1)$
- ג. $A(7,8)$, $B(6,15)$ ד. $A(0,5)$, $B(7,0)$
- ה. $A(6,9)$, $B(6,-7)$ ו. $A(4,-1)$, $B(18,-1)$

15 מצא את שיפועי הישרים שצלעות המשולש שקודקודיוהם: $A(6,5)$, $B(2,13)$, $C(4,-7)$. מונחים עליהם.

תשובות סופיות:

- (1) א. $(3, -2)$ ב. $(0, -1)$ ג. $(0, 0)$
- ד. $\left(4, -\frac{5}{8}\right)$ ה. $(1.5, -1)$ ו. $(4, -2.5)$
- (2) א. $B(0, 4)$ ב. $B(6, 8)$ ג. $B(-5, -3)$ ד. $B\left(1, \frac{2}{3}\right)$
- (3) $D(4, -1.5)$
- (4) $D(0, 2)$
- (5) $A(5, -8)$, $B(-11, 16)$
- (6) $D(18, 0)$
- (7) א. $d_{AB} = 7$ ב. $d_{AB} = 5$ ג. $d_{AB} = 5$ ד. $d_{AB} = 13$
- ה. $d_{AB} = \sqrt{145}$ ו. $d_{AB} = 15\sqrt{2}$
- (8) $P_{ABC} \approx 33.862$ יחידות אורך
- (9) $y = -2$ או $y = 10$
- (10) $x = 39$ או $x = -9$
- (11) $B(-1, -3)$
- (12) $B(3, -2)$, $C(-3, -2)$
- (13) $P_{ABCD} = 6\sqrt{10} \approx 18.97$ יחידות אורך
- (14) א. $m_{AB} = 1$ ב. $m_{AB} = -\frac{1}{2}$ ג. $m_{AB} = -7$ ד. $m_{AB} = -\frac{5}{7}$
- ה. שיפוע לא מוגדר. ו. $m_{AB} = 0$
- (15) $m_{AB} = -2$, $m_{BC} = -10$, $m_{AC} = 6$

משוואת הישר:

סיכום כללי:

נוסחאות כלליות:

- שיפוע ישר בין שתי נקודות $A(x_1, y_1)$ ו- $B(x_2, y_2)$ הוא: $m_{AB} = \frac{y_2 - y_1}{x_2 - x_1} = \frac{y_1 - y_2}{x_1 - x_2}$.

שיפועים של ישרים:

- שיפועי ישרים מאונכים מקיימים: $m_1 \cdot m_2 = -1$.
- הקשר בין שיפוע ישר לזווית שהוא יוצר עם הכיוון החיובי של ציר ה- x : $m = \tan \alpha$.

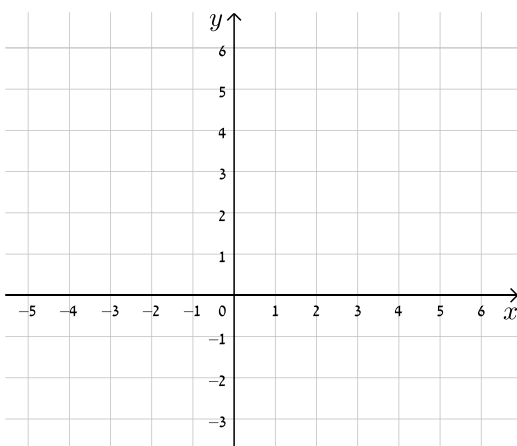
משוואת הישר:

- משוואת ישר מפורשת היא מהצורה: $y = mx + n$.
- כאשר: m הוא שיפוע הישר ו- n הוא ערך ה- y של נקודת החיתוך של הישר עם ציר ה- y .
- נוסחה למציאת משוואת ישר: $y - y_1 = m(x - x_1)$.

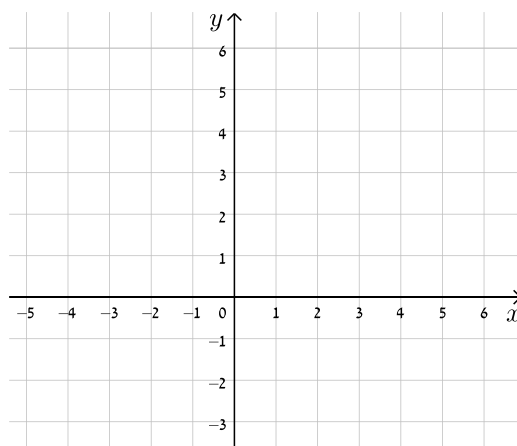
שאלות:

16) עבור כל אחד ממשוואות הישרים הבאות, מצא את נקודות החיתוך עם הצירים וסרטט את הישרים במערכת הצירים שלפניך.

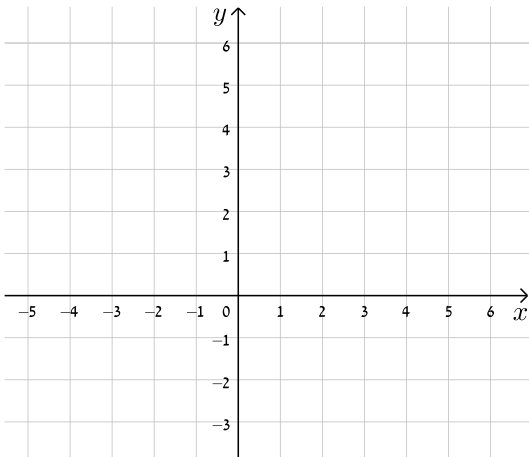
ב. $y = -x + 5$



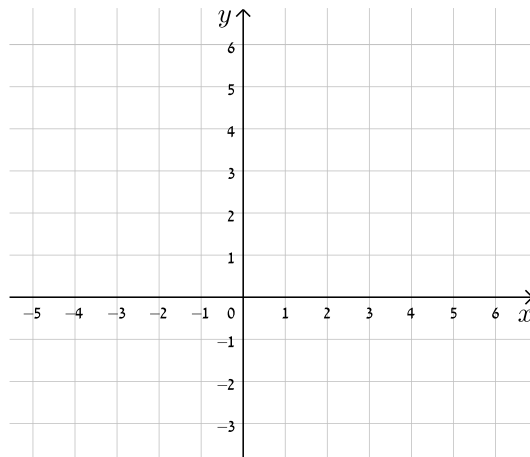
א. $y = x + 4$



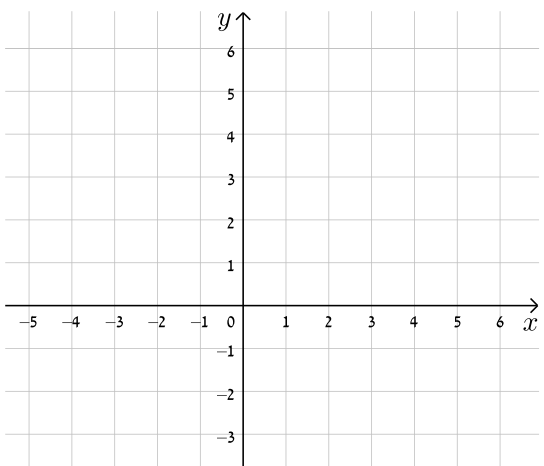
$$y = -3x + 5 \quad \text{ד.}$$



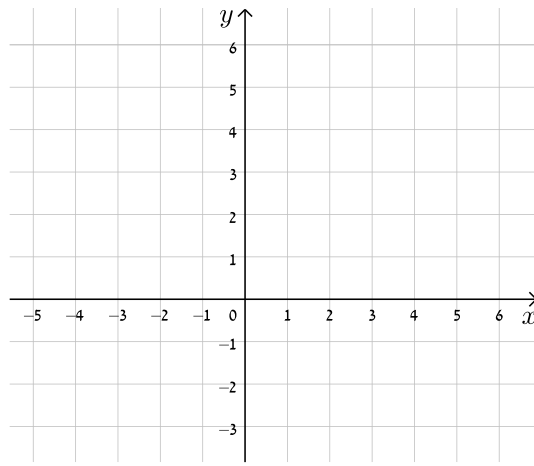
$$y = 2x - 3 \quad \text{ג.}$$



$$y = 8 - 4x \quad \text{ו.}$$

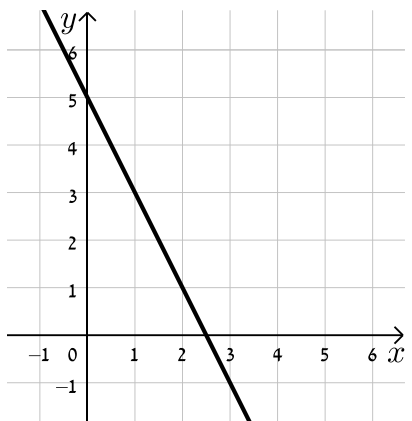


$$y = 3x - 1 \quad \text{ה.}$$

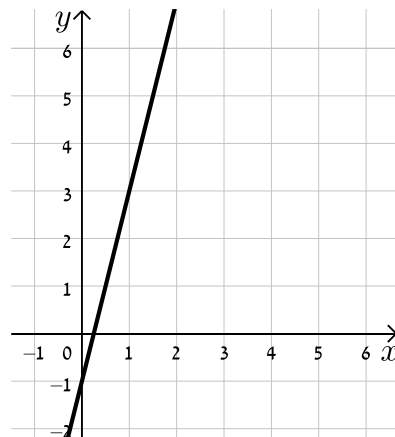


17) כתוב את משוואת הישר המתאימה לכל אחד מהישרים הבאים:

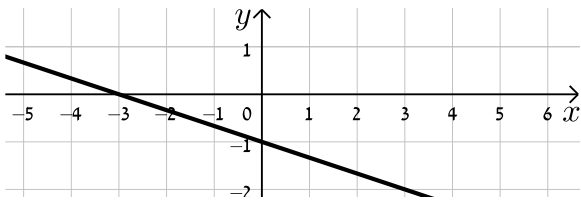
ב.



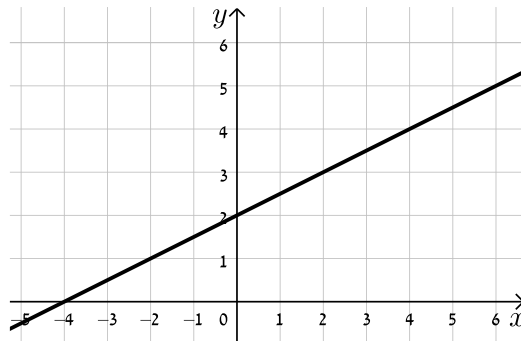
א.



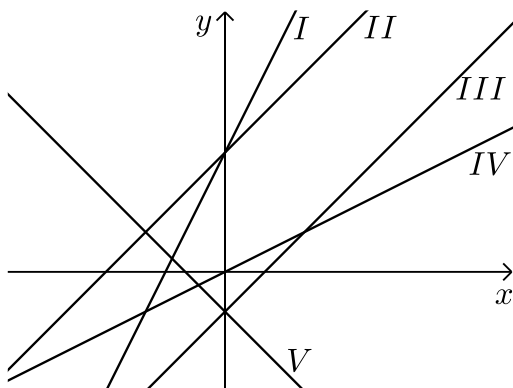
ד.



ג.



18) התאם בין משוואות הישרים הבאים לישרים בשרטוט :



א. $y = x + 3$

ב. $y = -x - 1$

ג. $y = 2x + 3$

ד. $y = x - 1$

ה. $y = \frac{1}{2}x$

19) נתונה משוואה הישר הבאה : $y = 2x + 3$. קבע אלו מבין הנקודות הבאות נמצאות

עליו : $A(-1,1)$, $B(3,3)$, $C(0,4)$, $D(6,15)$.

20) נתונה משוואת הישר הבאה : $y = mx - 2.5$. ידוע כי הנקודה $A(4,2)$ נמצאת על

הישר. מצא את m וקבע האם גם הנקודה $B(7,-2)$ נמצאת עליו.

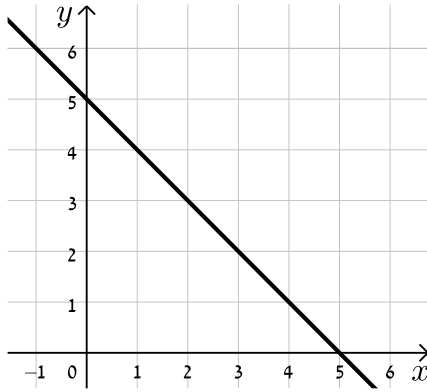
21) הנקודות $A(5,-3)$, $B(4,1)$ נמצאות על ישר שמשוואתו היא : $y = mx + n$.

מצא את m ואת n .

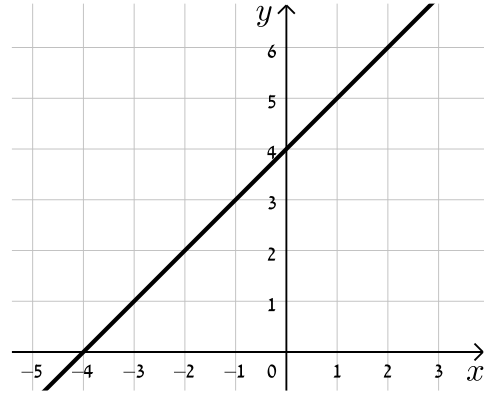
תשובות סופיות:

16) להלן הגרפים של משוואות הישרים:

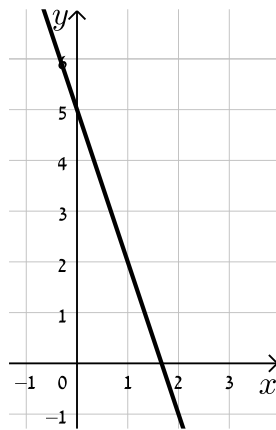
ב.



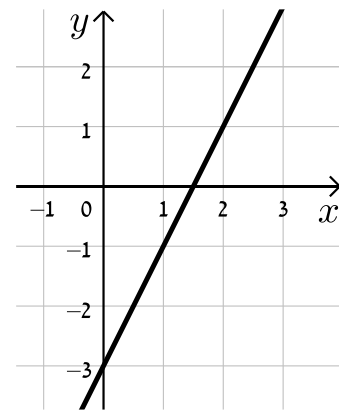
א.



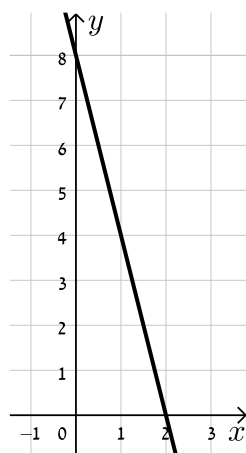
ד.



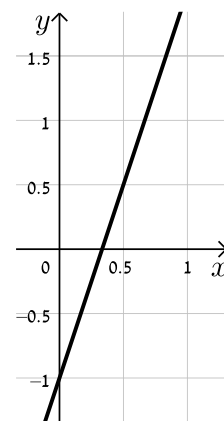
ג.



ו.



ה.



- (17) א. $y = 4x - 1$ ב. $y = -2x + 5$ ג. $y = \frac{1}{2}x + 2$ ד. $y = -\frac{1}{3}x - 1$
- (18) א. II. ב. V. ג. I. ד. III. ה. IV.
- (19) נמצאות: A, D. לא נמצאות: B, C.
- (20) $m = \frac{9}{8}$, B לא נמצאת.
- (21) $m = -4$, $n = 17$.

מצבים הדדיים בין ישרים:

סיכום כללי:

מצב הדדי בין שני ישרים:

- ישרים מקבילים מקיימים: $m_1 = m_2, n_1 \neq n_2$.
- ישרים חותכים מקיימים: $m_1 \neq m_2$.
- ישרים מתלכדים מקיימים: $m_1 = m_2, n_1 = n_2$.

שאלות:

22) מצא את נקודות החיתוך שבין זוגות הישרים הבאים:

$$\begin{cases} y = 2x - 4 \\ y = x + 6 \end{cases} \quad \text{ג.}$$

$$\begin{cases} y = x - 12 \\ y = 4x + 6 \end{cases} \quad \text{ב.}$$

$$\begin{cases} y = 3x + 4 \\ y = -2x - 1 \end{cases} \quad \text{א.}$$

23) קבע את המצב ההדדי בין זוגות הישרים הבאים:

$$\begin{cases} y = x - 7 \\ y = x + 6 \end{cases} \quad \text{ב.}$$

$$\begin{cases} y = 3x + 4 \\ y = 2x + 4 \end{cases} \quad \text{א.}$$

$$\begin{cases} y = x + 8 \\ y = x + 8 \end{cases} \quad \text{ד.}$$

$$\begin{cases} y = 6x - 15 \\ y = 3x + 41 \end{cases} \quad \text{ג.}$$

24) קבע אלו מבין זוגות הישרים הבאים הם מאונכים זה לזה:

$$\begin{cases} y = 2x \\ y = \frac{1}{2}x + 4 \end{cases} \quad \text{ב.}$$

$$\begin{cases} y = 3x + 1 \\ y = 3x - 1 \end{cases} \quad \text{א.}$$

$$\begin{cases} y = x - 6 \\ y = -x + 6 \end{cases} \quad \text{ד.}$$

$$\begin{cases} y = -4x - 5 \\ y = \frac{1}{4}x + 5 \end{cases} \quad \text{ג.}$$

- (25)** משוואת הצלע AB של המלבן ABCD היא $y = 6x - 2$.
- א. מה הם שיפועי הצלעות האחרות של המלבן?
 ב. כיצד תשתנה תשובתך לסעיף הקודם אם משוואת הישר הנ"ל הייתה שייכת לצלע BC במקום AB?
- (26)** במשולש ABC נתונים שיעורי הקודקודים: $A(5, -1)$, $B(3, 7)$, $C(-5, 5)$. הוכח שהמשולש ישר זווית ושווה שוקיים.

תשובות סופיות:

- (22)** א. $(-1, 1)$ ב. $(-6, -18)$ ג. $(10, 16)$
- (23)** א. נחתכים. ב. מקבילים. ג. נחתכים. ד. מתלכדים.
- (24)** מאונכים: ג', ד'. לא מאונכים: א', ב'.
- (25)** א. $m_{AB} = m_{CD} = 6$, $m_{BC} = m_{AD} = -\frac{1}{6}$
- ב. הכל הפוך: $m_{BC} = m_{AD} = 6$, $m_{AB} = m_{CD} = -\frac{1}{6}$
- (26)** שאלת הוכחה.

מציאת משוואות ישר:

שאלות:

27 מצא את משוואות הישרים הבאים:

- א. ישר העובר דרך הנקודה $A(1,3)$ ושיפועו $m=2$.
- ב. ישר העובר דרך הנקודה $A(0,-4)$ ושיפועו $m=\frac{1}{3}$.
- ג. ישר העובר דרך הנקודה $A(5,9)$ ושיפועו $m=0$.
- ד. ישר העובר דרך הנקודות $A(5,-12)$ ו- $B(6,-6)$.
- ה. ישר העובר דרך הנקודה $A(-6,4)$ ומקביל לישר: $y=2x-3$.
- ו. ישר העובר דרך הנקודה $A(3,-5)$ ומקביל לציר ה- y .
- ז. ישר העובר דרך הנקודה $A(-7,-3)$ ומאונך לישר: $y=x+3$.
- ח. ישר העובר דרך נקודת החיתוך של הישרים: $y=11x-4$ ו- $y=3x-12$ ומקביל לישר: $y=7x+5$.

תשובות סופיות:

- 27 א. $y=2x+1$ ב. $y=\frac{1}{3}x-4$ ג. $y=9$ ד. $y=6x-42$
- ה. $y=2x+16$ ו. $x=3$ ז. $y=-x-10$ ח. $y=7x-8$

שאלות יסודיות שונות עם משוואת הישר:

שאלות:

28) במשולש ABC מעבירים את התיכון AD לצלע BC.

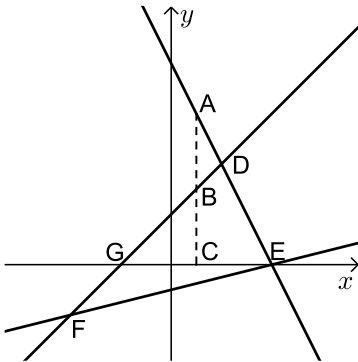
ידוע כי: $A(3, -2)$, $B(2, 4)$, $D(-2, 2)$.

- כתוב את משוואת הישר של התיכון AD.
- מצא את שיעורי הקדקוד C.
- כתוב את משוואת הישר של הצלע AC.

29) נתון מעוין ABCD שבו נתונים הקודקודים A(-9,1) ו-B(5,-7).

משוואת הישר עליו מונח האלכסון AC היא $x + 3y + 6 = 0$.

- מצא את משוואת הישר עליו מונח האלכסון BD.
- מצא את משוואת הישר עליו מונחת הצלע BC.



30) שלוש המשוואות הבאות מייצגות את הישרים המופיעים

בשרטוט: $x - y + 2 = 0$, $x - 4y - 4 = 0$, $2x + y - 8 = 0$.

הקטע AC מקביל לציר ה-y.

- חשב את שטח המשולש DEF.
- נתון: $d_{BC} = 3$. חשב את אורך הקטע AB.

31) BD הוא התיכון לצלע AC במשולש ABC שבו נתון הקודקוד A(-6,1).

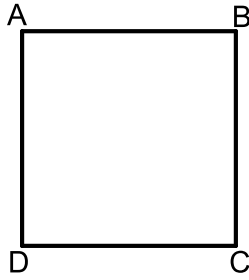
משוואת התיכון BD היא $x - y = 1$ ומשוואת הצלע BC היא $3x + 5y = 67$.

מצא את שיעורי הקדקוד C.

32) נתון טרפז ABCD ($AB \parallel CD$) ובו משוואת השוק BC היא: $x = 2$.

משוואת הבסיס CD היא $2x + 3y = 7$ וידוע כי $A(-4, 1)$.

- מצא את משוואת הבסיס AB.
- מצא את שיעורי הקדקודים B ו-C.
- מעבירים את האלכסון AC. הראה כי המשולש ABC הוא ישר זווית ומצא את שטחו.



33 במרובע ABCD ידוע כי שיפוע הצלע BC הוא 3

ושיעורי הנקודה A הם: (1,4).

א. איזה מרובע הוא המרובע ABCD?
הראה חישוב מתאים.

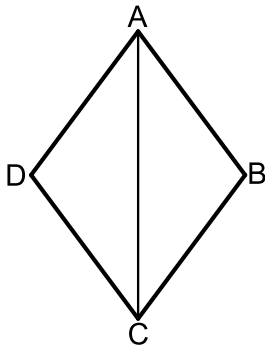
ב. נתון גם: $D(4,13)$, $m_{CD} = -\frac{1}{3}$ ו- $\sqrt{90}$ ס"מ $BC =$.

איזה מרובע הוא המרובע ABCD כעת?
הראה חישוב מתאים.

ג. נתון גם: $B(-8,7)$.

איזה מרובע הוא המרובע ABCD כעת?
הראה חישוב מתאים.

ד. חשב את שטח המרובע ABCD.



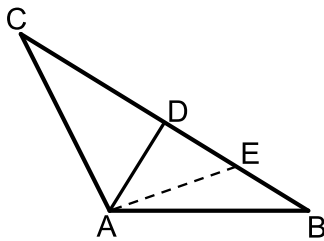
34 המרובע ABCD הוא מעוין.

ידוע כי שיעורי אחת הנקודות במעוין הם: (0,6).

כמו כן, ידוע גם כי משוואת האלכסון AC היא: $y = -1.5x + 6$ ואחת ממשוואות הצלעות היא: $5y + x = 4$.

א. מצא את משוואת האלכסון השני.

ב. מצא את שאר קדקודי המעוין.



35 המשולש ABC הוא משולש שווה שוקיים ($AB = AC$).

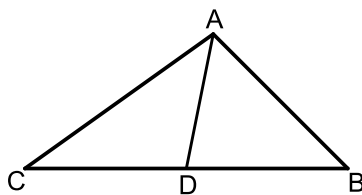
ב- $\triangle ABC$ מעבירים את הגובה AD לבסיס BC

ומסמנים נקודה E כך שמתקיים: $DE = BE$.
קדקוד הראש A נמצא בראשית הצירים ונתון

כי: $D(5,7)$, $E(8.5,2.5)$.

א. מצא את שיעורי שאר קודקודי המשולש.

ב. כתוב את משוואת השוק AC.



36 נתון משולש ABC. הנקודה D נמצאת על הצלע BC

של המשולש ABC כך שהקטע AD מחלק אותו

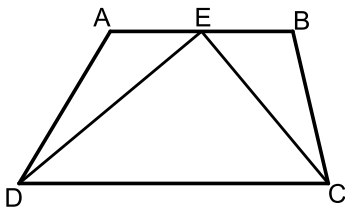
לשני משולשים שווי שטח ABD ו-ACD.

הצלע BC מונחת על הישר: $y = 4$ וידוע כי

שיעור ה-x של הנקודה C הוא: $x_C = -1$.

כמו כן נתון: $A(7,8)$, $m_{AB} = -2$.

- א. מצא את משוואת הצלע AB.
 ב. ענה על הסעיפים הבאים:
 i. איזה קטע הוא AD בתוך המשולש ABC?
 ii. מצא את שיעורי הנקודות B ו-D.
 ג. ענה על הסעיפים הבאים:
 i. חשב את אורך הצלע BC ואת אורך הקטע AD.
 ii. איזה משולש הוא המשולש ABC?



37 המרובע ABCD הוא טרפז. הנקודה E היא אמצע

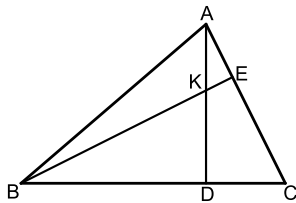
הבסיס AB וידוע כי היא נמצאת על ציר ה-x.

שיעורי הנקודה B הם (3, 2) והצלע AD מונחת

על הישר: $x = -5$. אורך הקטע DE הוא $\sqrt{80}$

כך ש- $\angle DEC = 90^\circ$ ברביע השלישי וכן:

- א. מצא את שיעורי הנקודות A ו-D.
 ב. מצא את משוואת הקטע CE ואת משוואת הבסיס CD.
 ג. מצא את שיעורי הנקודה C.
 ד. חשב את שטח המשולש DEC.



38 AD ו-BE הם בהתאמה גבהים לצלעות BC ו-AC

במשולש ABC.

ידוע כי שיעורי נקודת פגישת הגבהים K הם: (1, 3).

שיעורי הנקודות D ו-E הם: $D(-2, 4)$, $E(3, 5)$.

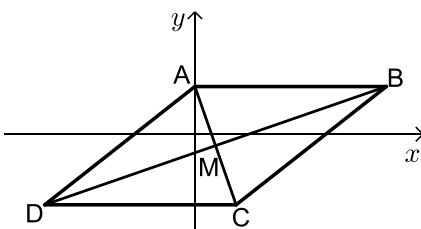
- א. מצא את משוואת הגובה AD ואת משוואת הצלע AC.
 ב. מצא את שיעורי הקדקוד A.
 ג. מצא את משוואת הגובה BE ואת משוואת הצלע BC.
 ד. מצא את שיעורי הקדקוד B.

39 נתון מעוין ABCD. ידוע כי הצלע CD מונחת על $y = -7$.

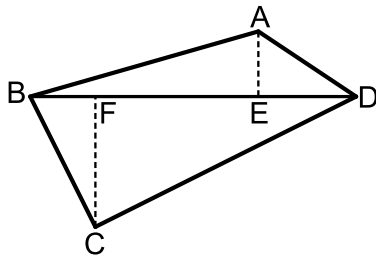
אלכסוני המעוין AC ו-BD נפגשים

בנקודה: $M(-0.5, -3)$. שיפוע האלכסון AC הוא -4.

- א. מצא את משוואת האלכסון AC.
 ב. מצא את שיעורי הנקודה C.
 ג. חשב את שטח המשולש BMC.

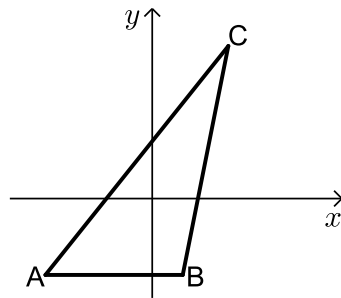


40 נתון מרובע ABCD שקודקודיו הם: $A(3,13)$, $B(-2,4)$, $C(9,3)$, $D(8,14)$.



מורידים גבהים AE ו-CF לאלכסון BD.

- מצא את משוואת האלכסון BD ואת אורכו.
- מצא את שיעורי הנקודות E ו-F.
- מצא את אורכי הגבהים AE ו-CF.
- חשב את שטח המרובע ABCD.



41 על הישר $y = -5$ מסמנים את

הנקודות: $A(-7, -5)$, $B(2, -5)$.

הנקודה C נמצאת על הישר: $y = x - 5$.

נסמן את שיעור ה-x של הנקודה C ב-t.

א. הבע באמצעות t את שיעור ה-y של הנקודה C.

ב. ידוע כי אורך הצלע AC הוא 17 ס"מ.

הבע באמצעות t את המרחקים של C מ-A ומ-B.

ג. מצא את t ואת אורך הצלע BC.

ד. מסמנים נקודה D על המשך הצלע AB.

ידוע כי D נמצאת ברביע השלישי.

מצא את שיעורי הנקודה D המקיימת ששטח

המשולש DAC יהיה גדול ב-16 יחידות משטח המשולש ABC.

42 המשולש ABC הוא שווה שוקיים ($AB = BC$)

ובו נתון: $A(-4, 12)$, $B(x, 6)$ ו- $C(4, 8)$.

א. מצא את x.

ב. הוכח כי המשולש הוא ישר זווית.

ג. ענה על הסעיפים הבאים:

i. מצא את משוואת הצלע AC.

ii. מסמנים את נקודת החיתוך של הצלע AC עם ציר ה-y ב-D.

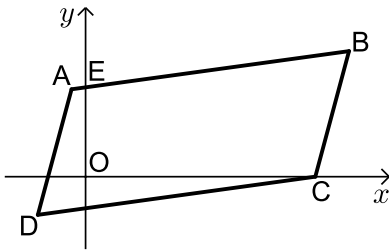
מצא את שיעורי הנקודה D.

ד. ענה על הסעיפים הבאים:

i. מצא נקודה E ברביע הראשון ($x_E < 5$) כך שהמשולש DCE יהיה גם

שווה שוקיים וישר זווית ($\sphericalangle C = 90^\circ$).

ii. חשב את יחס השטחים בין המשולשים: $\frac{S_{DCE}}{S_{ABC}}$.



43 באיור שלפניך נתונה מקבילית ABCD.

ידועים קודקודי המקבילית הבאים: $A(-1, y)$

ו- $B(x, 4)$. x ו- y נעלמים).

שיפוע הצלע CD הוא 0.2 ואורכה הוא: $d_{CD} = \sqrt{104}$.

א. מצא את x ו- y אם ידוע כי B ברביע הראשון.

ב. נתון גם כי הקדקוד C נמצא על ציר ה- x בחלקו החיובי

וכי: $d_{BC} = \sqrt{17}$. מצא את שיעורי הקדקוד C (מצא שתי אפשרויות).

ג. סמן את נקודת החיתוך של הצלע AB עם ציר ה- y ב-E.

שטח המרובע EOCB הוא 25.9 יח"ש. מצא את האפשרות הנכונה עבור

הנקודה C מבין אלו שמצאת בסעיף הקודם.

תשובות סופיות:

$$(28) \quad \text{א. } y = -\frac{4}{5}x + \frac{2}{5} \quad \text{ב. } C(-6, 0) \quad \text{ג. } y = -\frac{2}{9}x - \frac{4}{3}$$

$$(29) \quad \text{א. } l_{BD}: y = 3x - 22 \quad \text{ב. } l_{BC}: y = -\frac{1}{8}x - 6\frac{3}{8}$$

$$(30) \quad \text{א. } 18 \text{ יח"ש} = S_{EDF} \quad \text{ב. } 3 \text{ יחידות אורך} = AB$$

$$(31) \quad C(14, 5)$$

$$(32) \quad \text{א. } y = -\frac{2}{3}x - \frac{5}{3} \quad \text{ב. } B(2, -3), C(2, 1) \quad \text{ג. } 12 \text{ יחידות שטח} = S_{ABC}$$

(33) א. מרובע כללי כלשהו. לא ניתן להצביע על אף תכונה.

ב. מלבן. ניתן להראות כי יש למרובע שני זוגות צלעות נגדיות מקבילות ושוות וזווית ישרה.

ג. ריבוע. ניתן להראות כי קיימות זוג צלעות סמוכות שוות. ד. 90 יח"ש = S .

$$(34) \quad \text{א. } y = \frac{2}{3}x + 1\frac{2}{3} \quad \text{ב. } (-1, 1), (4, 0), (5, 5)$$

$$(35) \quad \text{א. } B(12, -2), C(-2, 16) \quad \text{ב. } y = -8x$$

$$(36) \quad \text{א. } y = -2x + 22 \quad \text{ב. i. תיכון - קטע במשולש שחוצה אותו לשני משולשים שווי}$$

$$\text{שטח הוא תיכון. ב. ii. } B(9, 4), D(4, 4)$$

ג. ii. $AD = 5, BC = 10$. ג. ii. משולש ישר זווית - אם במשולש יש תיכון לצלע ששווה

למחציתה אז המשולש הוא ישר זווית.

$$(37) \quad \text{א. } D(-5, -8), A(-5, -2), E(-1, 0) \quad \text{ב. } CE: y = -\frac{1}{2}x - \frac{1}{2}, CD: y = \frac{1}{2}x - 5\frac{1}{2}$$

$$\text{ג. } C(5, -3) \quad \text{ד. } 30 \text{ יח"ש} = S_{DEC}$$

$$(38) \quad \text{א. } AC: y = -x + 8, AD: y = -\frac{1}{3}x + 3\frac{1}{3} \quad \text{ב. } A(7, 1)$$

$$\text{ג. } BC: y = 3x + 10, BE: y = x + 2 \quad \text{ד. } B(-4, -2)$$

$$(39) \quad \text{א. } y = -4x - 5 \quad \text{ב. } C(0.5, -7) \quad \text{ג. } 34 \text{ סמ"ר} = S_{BMC} = S_{DMC}$$

$$(40) \quad \text{א. } d_{BD} = \sqrt{200}, y = x + 6 \quad \text{ב. } E(5, 11), F(3, 9)$$

$$\text{ג. } d_{CF} = \sqrt{72}, d_{AE} = \sqrt{8} \quad \text{ד. } S_{ABCD} = 80$$

$$(41) \quad \text{א. } C(t, t-5) \quad \text{ב. i. } AC = \sqrt{2t^2 + 14t + 49}, BC = \sqrt{2t^2 - 4t + 4}$$

$$\text{ii. } 10 \text{ ס"מ} = BC, t = 8 \quad \text{ג. } D(-20, -5)$$

$$(42) \quad \text{א. } x = -2 \quad \text{ג. i. } y = -0.5x + 10 \quad \text{ii. } D(0, 10) \quad \text{ד. i. } E(2, 4)$$

$$\text{ii. } \frac{S_{DCE}}{S_{ABC}} = \frac{1}{2}$$

$$(43) \quad \text{א. } x = 9, y = 2 \quad \text{ב. } C(8, 0), C(10, 0) \quad \text{ג. } C(8, 0)$$

חלוקת קטע ביחס נתון:

סיכום כללי:

- שיעורי נקודה P המחלקת קטע שקצותיו $A(x_1, y_1)$ ו- $B(x_2, y_2)$ ביחס של $k:l$ הם: $x_p = \frac{k \cdot x_1 + l \cdot x_2}{k+l}, y_p = \frac{k \cdot y_1 + l \cdot y_2}{k+l}$ (בהצלבה).

שאלות:

- (1) הנקודה P נמצאת על הקטע AB. נתון: $A(2, -5), B(-12, 16)$.

$$\frac{AP}{PB} = \frac{2}{5} \text{ . מצא את ערכי הנקודה P, אם נתון כי}$$

- (2) קודקודי משולש ABC הם: $A(-1, 3), B(6, 0), C(4, -12)$.

מצא את שיעורי מרכז הכובד של המשולש.
(מרכז כובד של משולש הוא מפגש תיכוני המשולש).

- (3) מצא את שיעורי מרכז הכובד של משולש ABC

$$\text{שקודקודיו הם: } A(x_1, y_1), B(x_2, y_2), C(x_3, y_3)$$

- (4) קודקודי המשולש ABC הם: $A(5, 1), B(7, -3), C(-1, 4)$.

מצא את אורכו של חוצה הזווית היוצא מקודקוד A.

תשובות סופיות:

$$M(3, -3) \quad (2) \qquad P(-2, 1) \quad (1)$$

$$1.697 \text{ יחידות אורך.} \quad (4) \qquad \left(\frac{x_1 + x_2 + x_3}{3}, \frac{y_1 + y_2 + y_3}{3} \right) \quad (3)$$

מרחק נקודה מישר:

סיכום כללי:

הצגה כללית של ישר ומרחקים:

- הצגה כללית של ישר (צורה סתומה): $Ax + By + C = 0$.
- מרחק הנקודה $A(x_1, y_1)$ מהישר $Ax + By + C = 0$ הוא: $d = \left| \frac{Ax_1 + By_1 + C}{\sqrt{A^2 + B^2}} \right|$.

כאשר $B > 0$:

- אם הנקודה מעל הישר מורידים את הערך המוחלט.
- אם הנקודה מתחת לישר מורידים את הערך המוחלט ומוסיפים מינוס לאחד האגפים.

שאלות:

(5) ענה על הסעיפים הבאים:

- מצא את מרחק הנקודה $(-2, 4)$ מהישר $4x + 3y + 11 = 0$.
- מצא את מרחק הנקודה $(4, 3)$ מהישר $y = 3x - 1$.
- מצא את מרחק הנקודה $(3, -11)$ מהישר $x - 5 = 0$.

(6) מצא את המרחק בין הנקודה הנתונה לישר הנתון:

- $3x - 4y + 6 = 0$, $A(-5, -1)$ ב. $12x + 5y - 17 = 0$, $A(-3, 8)$
- $2y + 7 = 0$, $A(11, -2)$ ד. $3x - 14 = 0$, $A\left(6, -\frac{1}{2}\right)$

(7) מצא את שיעורי הנקודות על הישר $x + y - 7 = 0$ שמרחקן

מהישר $2x - y + 5 = 0$ הוא: $\sqrt{20}$.

(8) מצא את שטחה של מקבילית ששיעורי קודקודיה

הם: $A(7, -1)$, $B(-5, 4)$, $C(-1, 7)$, $D(11, 2)$.

- (9) מצא את שטחו של המשולש $\triangle ABC$ שבו שיעורי קדקוד A הם $A(5, -3)$ ושניים מתיכוני המשולש מונחים על הישרים $x - 4 = 0$ ו- $2x - y - 1 = 0$.
- (10) מצא את שטחו של משולש שקודקודיו הם: $A(2, 2)$, $B(-1, 1)$, $C(-5, -2)$.
- (11) מצא את שיעורי הנקודות על הישר $3x - 2y + 6 = 0$, שמרחקן מהישר: $2x - y - 14 = 0$ הוא $3\sqrt{5}$.
- (12) מצא את שיעורי הנקודות על הישר $4x + 3y - 20 = 0$, שמרחקן מהישר: $3x + 2y + 13 = 0$ הוא $2\sqrt{13}$.

תשובות סופיות:

- (5) א. 3 ב. $\frac{8}{\sqrt{10}}$ ג. 2
- (6) א. 1 ב. 1 ג. $1\frac{1}{2}$ ד. $1\frac{1}{3}$
- (7) $(4, 3)$, $\left(-2\frac{2}{3}, 9\frac{2}{3}\right)$
- (8) $S_{ABCD} = 56$ יח"ש
- (9) $S_{ABC} = 18$ יח"ש
- (10) $S_{ABC} = 2.5$ יח"ש
- (11) $(4, 9)$, $(64, 99)$
- (12) $(-1, 8)$, $(-157, 216)$

מיקום נקודה ביחס לישר:

שאלות:

- 13** מצא את שיעורי הנקודה על הישר $3x - 2y + 6 = 0$, שמרחקה מהישר: $2x - y - 14 = 0$ הוא $3\sqrt{5}$ והיא נמצאת מתחתיו.
- 14** מצא את שיעורי הנקודה על הישר $4x + 3y - 20 = 0$, שמרחקה מהישר: $3x + 2y + 13 = 0$ הוא $2\sqrt{13}$ והיא נמצאת מעליו.
- 15** נתון משולש ABC שבו נתונים הקודקודים: $A(1,1)$, $B(13,6)$. הקדקוד C נמצא על הישר $2x - y - 19 = 0$ ונמצא מתחת לצלע AB. מצא את שיעורי הקדקוד C אם ידוע ששטח המשולש הוא 13.
- 16** נתון משולש שצלעותיו מונחות על הישרים:
 $I: x + 2y + 1 = 0$, $II: x - 2y - 11 = 0$, $III: 2x - y + 6 = 0$
 מצא שיעורי נקודה הנמצאת בתוך המשולש, שמרחקה מישר I שווה למרחקה מישר III ומרחקה מישר II הוא מחצית מהמרחק משני ישרים אלה.
- 17** מצא את שיעורי מרכז המעגל, החסום במשולש, שצלעותיו מונחות על הישרים: $I: 4x - 3y + 2 = 0$, $II: 3x - 4y - 51 = 0$, $III: 3x + 4y - 11 = 0$.
- 18** מצא משוואת ישר ששיפועו 3 אם ידוע שהנקודה $G(7, -3)$ נמצאת מתחתיו ובמרחק $2\sqrt{10}$ ממנו.
- 19** מצא משוואת ישר שעובר בנקודה $A(-2, 6)$ ומרחקו מהנקודה $B(2, 9)$ הוא $\sqrt{5}$.
- 20** מצא משוואת ישר שעובר בנקודה $A(9, 10)$ ומרחקו מהנקודה $B(8, -3)$ הוא $5\sqrt{5}$.
- 21** מצא משוואת ישר שעובר בנקודה $A(3, 6)$ ומרחקו מהנקודה $B(-9, 2)$ הוא 4.

(22) מצא משוואת ישר שעובר בנקודה $A(1,2)$ ומרחקו מהנקודה $B(-3,10)$ הוא 4.

(23) מצא משוואת ישר שעובר בנקודה $A(10,8)$ ומרחקו מהנקודה $B(7,-1)$ הוא 3.

(24) מצא משוואת ישר שעובר בנקודה $A(-6,1)$ ומרחקו מהנקודה $B(2,7)$ הוא 10.

תשובות סופיות:

$$(-1,8) \quad \mathbf{(14)}$$

$$(-1,-4) \quad \mathbf{(16)}$$

$$y = 3x - 4 \quad \mathbf{(18)}$$

$$y = -\frac{22}{31}x + 16\frac{12}{31}, \quad y = \frac{1}{2}x + 5\frac{1}{2} \quad \mathbf{(20)}$$

$$x = 1 \text{ או } y = -\frac{3}{4}x + 2\frac{3}{4} \quad \mathbf{(22)}$$

$$y = -\frac{4}{3}x - 7 \quad \mathbf{(24)}$$

$$(64,99) \quad \mathbf{(13)}$$

$$C(11,3) \quad \mathbf{(15)}$$

$$(2,-5) \quad \mathbf{(17)}$$

$$y = 2x + 10, \quad y = \frac{2}{11}x + 6\frac{4}{11} \quad \mathbf{(19)}$$

$$y = \frac{3}{4}x + 3\frac{3}{4}, \quad y = 6 \quad \mathbf{(21)}$$

$$x = 10 \text{ או } y = 1\frac{1}{3}x - 5\frac{1}{3} \quad \mathbf{(23)}$$

מרחק בין ישרים מקבילים:

סיכום כללי:

- מרחק בין שני ישרים מקבילים: $Ax + By + C_1 = 0$ ו- $Ax + By + C_2 = 0$ כאשר: $B > 0$

$$\text{הוא: } d = \frac{|C_1 - C_2|}{\sqrt{A^2 + B^2}} \text{ ומתקיים בהעדר הערך המוחלט:}$$

- אם: $C_1 > C_2$, $(d > 0)$ אז הישר $Ax + By + C_1 = 0$ מתחת ל- $Ax + By + C_2 = 0$.
- אם: $C_1 < C_2$, $(d < 0)$ אז הישר $Ax + By + C_1 = 0$ מעל ל- $Ax + By + C_2 = 0$.

שאלות:

(25) מצא משוואת ישר, המקביל לישר $3x - 4y + 8 = 0$ ונמצא במרחק 4 ממנו.

(26) מצא את המרחק בין הישרים המקבילים: $5x + 12y - 14 = 0$, $5x + 12y + 25 = 0$.

(27) נתונים הישרים: $y = 6x + 5$, $12x - 2y - 15 = 0$.
הראה שהישרים מקבילים ומצא את המרחק ביניהם.

(28) נתון המלבן ABCD. משוואותיהן של שתיים מצלעות המלבן הן $AB: 3x + y = 0$ ו- $CD: 3x + y - 6 = 0$. הקדקוד B נמצא בראשית הצירים. נתון כי הצלע BC ארוכה פי 4 מהצלע BC. מצא את שטח המלבן ואת מפגש אלכסוני המלבן, אם ידוע שהוא ברביע הרביעי.

(29) צלע של ריבוע מונחת על הישר $3x - 2y + 5 = 0$. אלכסוני הריבוע נפגשים בנקודה $B(1, -1)$. מצא את משוואות הישרים עליהם מונחות הצלעות האחרות של הריבוע.

(30) נתון ישר שעובר בראשית הצירים ושיפועו חיובי. מצא את משוואת הישר אם נתון שהוא נמצא מעל הנקודות $P(4, 1)$ ו- $Q(7, 2)$ וסכום המרחקים ממנו לנקודות אלה הוא $3\sqrt{10}$.

(31) במשולש BKP נתון כי הצלע BK מונחת על הישר $x - y + 3 = 0$ והצלע BP מונחת על הישר $x + 2y + 3 = 0$. אורך הגובה לצלע BP הוא $3\sqrt{5}$ ואורך הגובה לצלע KP הוא 5. מצא את שיעורי קדקוד P אם ידוע שראשית הצירים נמצאת בתוך המשולש.

תשובות סופיות:

$$3 \quad (26) \quad 3x - 4y + 28 = 0, 3x - 4y - 12 = 0 \quad (25)$$

$$(2.1, -3.3), S = \text{יח"ש} \quad 14.4 \quad (28) \quad \frac{25}{\sqrt{148}} \quad (27)$$

$$3x - 2y - 15 = 0, y = -\frac{2}{3}x - 3\frac{2}{3}, y = -\frac{2}{3}x + 3 \quad (29)$$

$$P\left(2, -2\frac{1}{2}\right) \quad (31) \quad y = 3x \quad (30)$$

מכינה במתמטיקה להנדסת מכונות

פרק 27 - גיאומטריה אנליטית - המעגל

תוכן העניינים

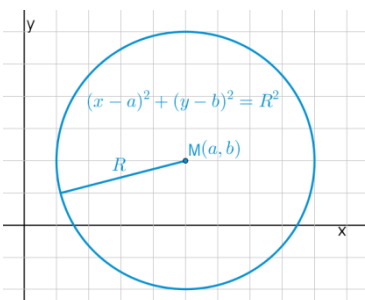
445	1. הכרות עם משוואת המעגל
449	2. מעגל המשיק לצירים
451	3. משיק למעגל
452	4. שאלות יסודיות שונות
(ללא ספר)	5. נושאים מתקדמים במעגל
459	6. כתיבת משוואת מעגל עם השלמה לריבוע
460	7. משוואות המשיקים למעגל
462	8. מיתר המחבר שתי נקודות השקה
463	9. שאלות מסכמות שונות

הכרות עם משוואת המעגל:

סיכום כללי:

הגדרה:

המקום הגאומטרי של כל הנקודות, הנמצאות במרחק קבוע מנקודה קבועה במישור נקרא מעגל.



משוואת מעגל:

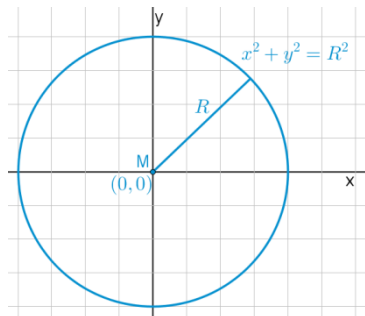
משוואת מעגל שמרכזו בנקודה $M(a, b)$

ורדיוסו R היא: $(x-a)^2 + (y-b)^2 = R^2$.

משוואת מעגל קנוני:

משוואת מעגל קנוני (שמרכזו בראשית הצירים $M(0,0)$)

ורדיוסו R היא: $x^2 + y^2 = R^2$.



שאלות:

(1) מצא את מרכזם ורדיוסם של המעגלים הבאים:

א. $(x-3)^2 + (y+5)^2 = 49$

ב. $\left(x + \frac{1}{2}\right)^2 + y^2 = 10$

ג. $(x-m)^2 + (y+n)^2 = m^2 + n^2$

(2) כתוב את משוואות המעגלים שמרכזם M ורדיוסם R :

א. $M(4, -2), R=3$

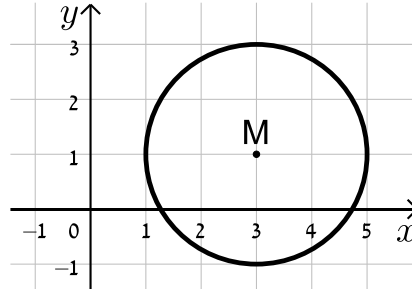
ב. $M(-3, 5), R=10$

ג. $M(5, 5), R=\sqrt{40}$

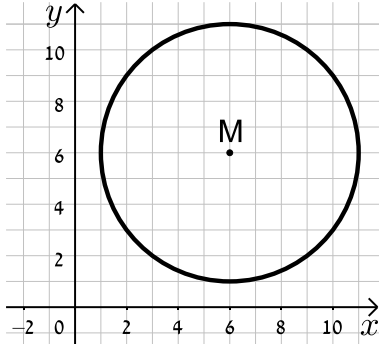
ד. $M(10, -12), R=\sqrt{30}$

3) כתוב את משוואות המעגלים הבאים בכל מקרה:

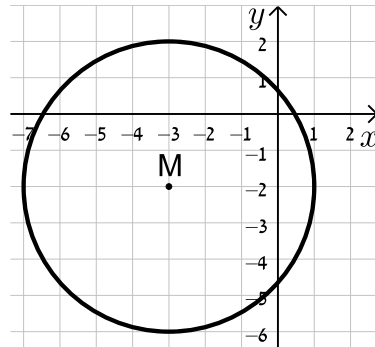
א.



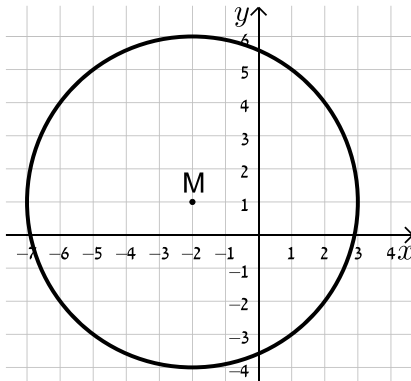
ב.



ג.



ד.



4) מצא את משוואתו של מעגל שעובר בנקודה $A(-4, 5)$ ומרכזו בנקודה $O(2, -1)$.

5) מצא את משוואת המעגל שמרכזו בנקודה $M(-5, 6)$ והוא חותך את ציר ה- x בנקודה שבה $x = 9$.

6) מצא את משוואת המעגל שמרכזו בנקודה $M(0, -7)$ והוא חותך את ציר ה- y בנקודה שבה $y = 3$.

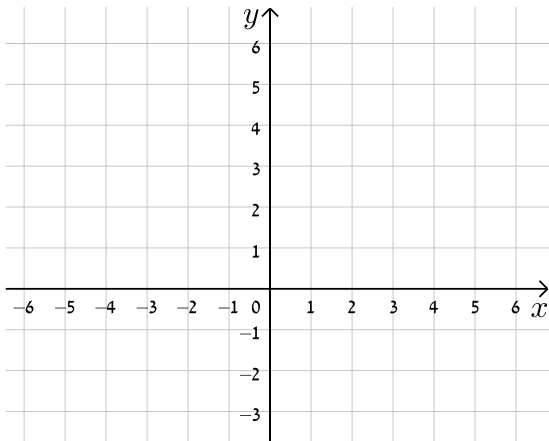
7) מצא את משוואתו של מעגל שעובר בנקודה $A(11, 2)$, רדיוסו 13 ומרכזו נמצא על הישר $y = 2x - 1$.

8) מצא את משוואתו של מעגל שהנקודות $A(-2, 3)$ ו- $B(4, -3)$ הן קצות הקוטר שלו.

9 מצא את משוואתו של מעגל שמרכזו נמצא על הישר $x=4$, רדיוסו 10 והוא חותך מציר ה- x מיתר שאורכו 12.

10 מצא את משוואתו של מעגל שמרכזו $M(4, -3)$ אם ידוע כי הישר $y = -3x + 7$ חותך אותו בשתי נקודות A ו-B כך שאורכו של המיתר AB הוא 4 יחידות אורך.

11 מצא את משוואתו של מעגל החוסם משולש שקודקודיו הם $A(22, -24)$, $B(-10, 40)$, $C(-30, 28)$.



12 נתונים שני מעגלים בעלי אותו המרכז $M(3, -1)$, האחד הוא בעל רדיוס R והשני בעל רדיוס של $2R$.
 א. כתוב את המשוואות של שני המעגלים (בטא באמצעות R).
 ב. מה תהיינה המשוואות עבור $R = 2$?
 ג. צייר את שני המעגלים במערכת הצירים שלפניך.

13 שני מעגלים שמרכזיהם $M_1(6, 2)$ ו- $M_2(-3, -4)$ חותכים זה את זה בנקודה $(-2, 3)$. מצא את משוואות המעגלים.

14 נתונה משוואת המעגל הבאה: $x^2 + y^2 - 10x - 10y + a = 0$ כאשר a פרמטר.
 א. מצא ביטוי של רדיוס המעגל באמצעות a .
 ב. איזה מהערכים הבאים יכול להיות הגיוני עבור a ?
 נמק ומצא את תחום ההגדרה של a .
 i. $a = 5$
 ii. $a = 55$

תשובות סופיות:

$$\text{ב. } M(-0.5, 0), R = \sqrt{10} \quad \text{א. } M(3, -5), R = 7 \quad (1)$$

$$\text{ג. } M(m, -n), R = \sqrt{m^2 + n^2}$$

$$\text{ב. } (x+3)^2 + (y-5)^2 = 100 \quad \text{א. } (x-4)^2 + (y+2)^2 = 9 \quad (2)$$

$$\text{ד. } (x-10)^2 + (y+12)^2 = 30 \quad \text{ג. } (x-5)^2 + (y-5)^2 = 40$$

$$\text{ב. } (x-6)^2 + (y-6)^2 = 25 \quad \text{א. } (x-3)^2 + (y-1)^2 = 4 \quad (3)$$

$$\text{ד. } (x+2)^2 + (y-1)^2 = 25 \quad \text{ג. } (x+3)^2 + (y+2)^2 = 16$$

$$\text{א. } M(3, -3), (x-2)^2 + (y+1)^2 = 72 \quad (4)$$

$$\text{ב. } (x+5)^2 + (y-6)^2 = 232 \quad (5)$$

$$\text{ג. } x^2 + (y+7)^2 = 100 \quad (6)$$

$$\text{א. } (x-7.8)^2 + (y+14.6)^2 = 169 \quad \text{או } (x+1)^2 + (y+3)^2 = 169 \quad (7)$$

$$\text{ב. } (x-1)^2 + y^2 = 18 \quad (8)$$

$$\text{א. } (x-4)^2 + (y+8)^2 = 100 \quad \text{או } (x-4)^2 + (y-8)^2 = 100 \quad (9)$$

$$\text{ב. } (x-4)^2 + (y+3)^2 = 4\frac{2}{5} \quad (10)$$

$$\text{ג. } (x+2)^2 + (y-4)^2 = 1360 \quad (11)$$

$$\text{א. } (x-3)^2 + (y+1)^2 = R^2, (x-3)^2 + (y+1)^2 = 4R^2 \quad (12)$$

$$\text{ב. } (x-3)^2 + (y+1)^2 = 4, (x-3)^2 + (y+1)^2 = 16$$

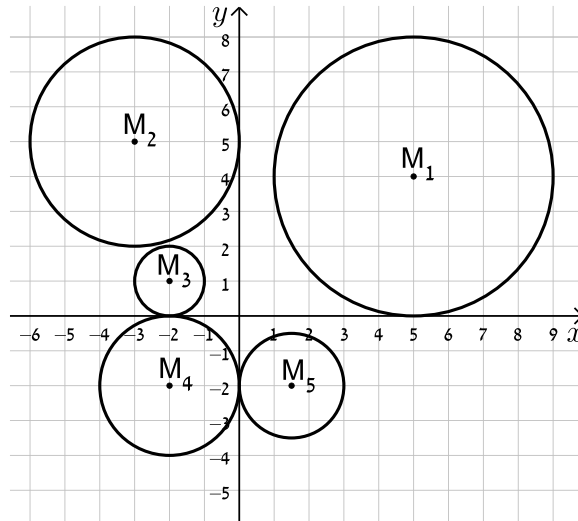
$$\text{א. } (x+3)^2 + (y+4)^2 = 50, (x-6)^2 + (y-2)^2 = 65 \quad (13)$$

$$\text{ב. } a = 5, \text{ ת.ה. } : a < 50 \quad \text{א. } R = \sqrt{50-a} \quad (14)$$

מעגל המשיק לצירים:

שאלות:

15) כתוב את משוואות המעגלים הבאים:



16) מצא את משוואתו של מעגל המשיק לשני הצירים ורדיוסו 4.

17) מצא את משוואת המעגל שמשיק לציר ה- x ומרכזו בנקודה $M(16, 8)$.

18) מצא את משוואת המעגל שמרכזו נמצא על הישר $2x + 3y + 6 = 0$ והוא משיק לשני הצירים.

19) מצא את משוואתו של מעגל שמשיק לציר ה- y ולישר $y = 6$ ומרכזו על הישר $y = 3x - 2$ ברביע הראשון.

תשובות סופיות:

$$M_1 : (x-5)^2 + (y-4)^2 = 16, M_2 : (x+3)^2 + (y-5)^2 = 9 \quad \mathbf{(15)}$$

$$, M_3 : (x+2)^2 + (y-1)^2 = 1, M_4 : (x+2)^2 + (y+2)^2 = 4$$

$$. M_5 : (x-1.5)^2 + (y+2)^2 = 2\frac{1}{4}$$

$$. (x \pm 4)^2 + (y \pm 4)^2 = 16 \quad \mathbf{(16)}$$

$$. (x-16)^2 + (y-8)^2 = 64 \quad \mathbf{(17)}$$

$$. \left(x+1\frac{1}{5}\right)^2 + \left(y+1\frac{1}{5}\right)^2 = \frac{36}{25}, (x-6)^2 + (y+6)^2 = 36 \quad \mathbf{(18)}$$

$$. (x-2)^2 + (y-4)^2 = 4 \quad \mathbf{(19)}$$

משיק למעגל:

סיכום כללי:

משוואת המשיק למעגל $(x-a)^2 + (y-b)^2 = R^2$ בנקודה $A(x_1, y_1)$ שעליו היא: $(x-a)(x_1-a) + (y-b)(y_1-b) = R^2$.

שאלות:

20 מצא את משוואות המשיקים למעגל $(x+1)^2 + (y-2)^2 = 25$ בנקודות על המעגל שבהן $y = 5$.

21 נתונה משוואת המעגל: $(x-1)^2 + (y-3)^2 = 20$ ומשוואת הישר $y = 2x + m$ כאשר m פרמטר. מצא עבור אלו ערכים של m הישר ישיק למעגל ולאילו ערכים הישר יחתוך את המעגל.

תשובות סופיות:

20 $4x - 3y + 35 = 0$ ו- $4x + 3y = 27$.

21 משיק: $m = 11, -9$, חותך: $-9 < m < 11$.

שאלות יסודיות שונות:

שאלות:

(22) נתון מעגל שמשוואתו $(x-3)^2 + (y+4)^2 = 25$.

- א. מצא את נקודות החיתוך של המעגל עם הצירים.
 ב. העבירו קוטר במעגל, המאונך לציר ה- x .
 מצא את שטח המרובע הנוצר על ידי נקודות החיתוך שמצאת בסעיף א' ונקודת החיתוך של הקוטר עם המעגל הנמצאת ברביע הראשון.

- (23) נתון ישר שמשוואתו $y = 2x - 10$. הישר חותך את ציר ה- x בנקודה A ואת ציר ה- y בנקודה B. בנקודה A מעבירים משיק למעגל שהקטע AB הוא קוטרו. המשיק חותך את ציר ה- y בנקודה C. מצא את אורך הקטע BC.

- (24) נתון המעגל שמשוואתו $x^2 + y^2 = 81$. מסמנים ב-A את נקודת החיתוך החיובית של המעגל עם ציר ה- x . הנקודה A היא מרכזו של מעגל נוסף בעל רדיוס של 12. מסמנים את נקודות החיתוך של שני המעגלים ב-B ו-C. מצא את שטח המשולש שנוצר בין הנקודות B, C ו-O (ראשית הצירים).

- (25) נתון ישר שמשוואתו $y = x$. הישר חותך מעגל קנוני שמשוואתו $x^2 + y^2 = 32$ בשתי נקודות, A ו-B, כאשר A ברביע הראשון. בנקודה A עובר מעגל נוסף, המשיק למעגל הקנוני ובעל אותו רדיוס. מצא את משוואת המעגל הנוסף ואת משוואת המשיק המשותף לשני המעגלים העובר בנקודה A.

- (26) הישרים: $9y + 11x = 94$ ו- $y = -3x + 14$ נחתכים בנקודה B.

דרך נקודה זו עובר מעגל שמרכזו הוא: $M(-9, 1)$.

ידוע כי מעגל זה חותך את הישרים (חוץ מהנקודה B)

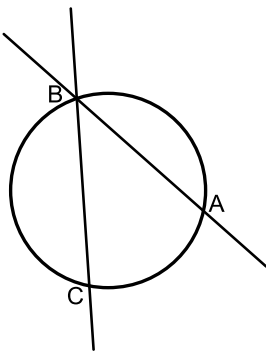
בשתי נקודות A ו-C (ראה איור).

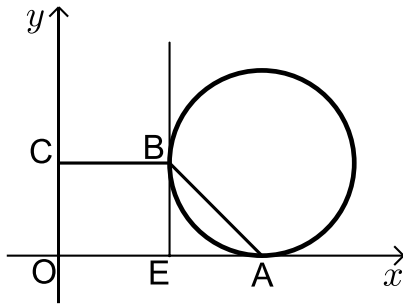
א. מצא את שיעורי הנקודה B.

ב. מצא את משוואת המעגל.

ג. מצא את שיעורי הנקודה A – נקודת החיתוך של הישר

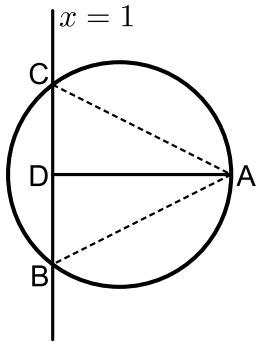
שמשוואתו: $y = -3x + 14$ עם המעגל.





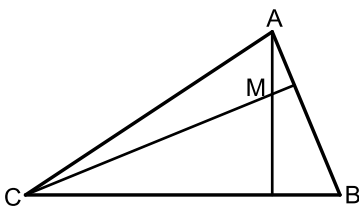
- (27)** נתון מעגל המשיק לציר ה- x בנקודה A .
 מהנקודה E שעל ציר ה- x מעלים אנך המשיק
 למעגל בנקודה B (ראה איור).
 הקטע BC מקביל לציר ה- x ו- O היא נקודת
 ראשית הצירים. יוצרים טרפז ישר זווית $ABCO$
 ששטחו הוא 170 סמ"ר.
 ידוע כי: $C(0,10)$ ו- $AE = 10$ ס"מ.

- א. ענה על הסעיפים הבאים:
 i. מצא את שיעורי הנקודה B .
 ii. מצא את שיעורי הנקודה A .
 ב. כתוב את משוואת המעגל.

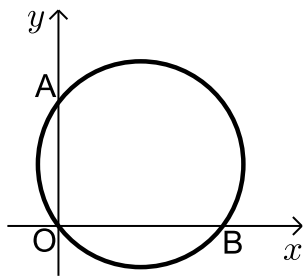


- (28)** הנקודה $A(17,4)$ נמצאת על המעגל
 שמשוואתו: $(x-7)^2 + (y-4)^2 = R^2$.
 הישר $x=1$ חותך את המעגל בשתי נקודות B ו- C כך
 ש- B נמצאת ברביע הרביעי. מעבירים את הקטע AD
 המאונך לישר BC וידוע כי הנקודה D היא אמצע BC .

- א. מצא את רדיוס המעגל.
 ב. מצא את שיעורי הנקודות B ו- C .
 ג. ענה על הסעיפים הבאים:
 i. חשב את מרחק הנקודה A מהישר: $x=1$
 ii. חשב את שטח המשולש ABC .



- (29)** נתון משולש ABC . משוואות הצלעות AB ו- BC
 במשולש ABC הן בהתאמה: $2y - x = 56$
 ו- $8y + x = 104$.
 מעבירים גבהים לצלעות AB ו- BC אשר
 נחתכים בנקודה $M(0, -2)$ שבתוך המשולש.
 א. מצא את משוואות הגבהים.
 ב. מצא את שיעורי הנקודה B .
 ג. מצא את משוואת המעגל שמרכזו בנקודה M
 ורדיוסו הוא הקטע BM .



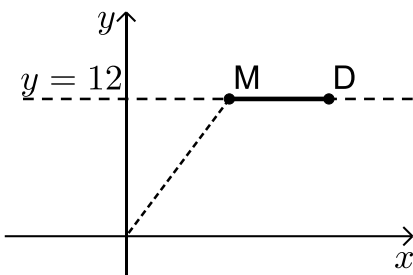
30 באיור שלפניך מתואר המעגל: $(x-4)^2 + (y-3)^2 = 25$.

המעגל חותך את הצירים בנקודות A, B ו-O.

- א. מצא את נקודות החיתוך של המעגל עם הצירים.
- ב. מצא נקודה C הנמצאת על היקף המעגל ברביע הראשון כך שהמרובע ABCO יהיה מלבן.
- ג. חשב את היקף המלבן.

31 המעגל: $(x+a)^2 + (y-1)^2 = a+4$, $a > 0$, חותך את ציר ה-x בנקודה שבה: $x=1$.

- א. מצא את a.
- ב. מצא את נקודות החיתוך של המעגל הנתון עם המעגל $(x-1)^2 + (y-2)^2 = 10$.
- ג. כתוב את משוואת הישר העובר דרך נקודות החיתוך של שני המעגלים.
- ד. חשב את שטח המשולש שיוצר הישר שמצאת בסעיף הקודם עם הצירים.



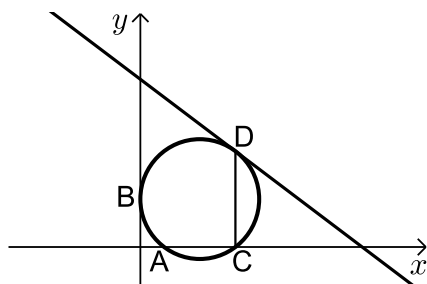
32 הנקודות M ו-D נמצאות על הישר $y=12$ ידוע כי שיעור

ה-x של הנקודה M הוא 9 וכי המרחק של הנקודה M מראשית הצירים גדול ב-6 מהמרחק בין הנקודות M ו-D (ראה איור).
בוניס מעגל שמרכזו נמצא בנקודה M ורדיוסו הוא האורך DM.

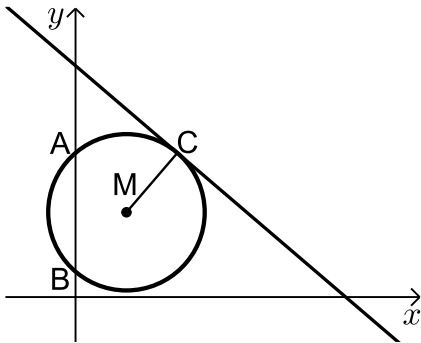
- א. ענה על הסעיפים הבאים:
 - i. מצא את מרחק הנקודה M מראשית הצירים.
 - ii. מצא את שיעור ה-x של הנקודה D.
- ב. כתוב את משוואת המעגל.
- ג. האם המעגל הזה חותך את הצירים? הראה חישוב מתאים לטענתך.

33 מעגל שמרכזו בנקודה M(15,12) משיק לציר ה-y

בנקודה B וחותך את ציר ה-x בשתי נקודות A ו-C כמתואר באיור.



- א. כתוב את משוואת המעגל.
מהנקודה C מעלים אנך לציר ה-x שחותך את המעגל בנקודה נוספת D.
דרך הנקודה D עובר משיק למעגל.
- ב. מצא את שיעורי הנקודות C ו-D.
- ג. מצא את משוואת המשיק למעגל בנקודה D.



34) באיור שלפניך נתון מעגל שמרכזו בנקודה M.

המעגל חותך את ציר ה- y בנקודות A ו-B.

מעבירים משיק למעגל: $6x + 7y = 191$

דרך הנקודה: $C(12, 17)$.

א. כתוב את משוואת הרדיוס MC.

ב. ידוע כי הנקודה M נמצאת על הישר $y = 10$.

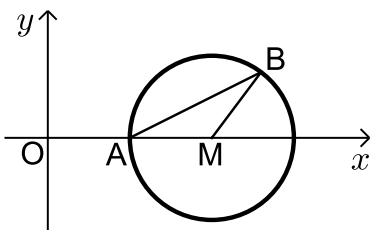
i. מצא את שיעורי הנקודה M.

ii. מצא את אורך רדיוס המעגל.

iii. כתוב את משוואת המעגל.

ג. מצא את נקודות החיתוך של המעגל עם ציר ה- y .

ד. חשב את שטח המשולש AMB.



35) באיור שלפניך נתון מעגל שמרכזו בנקודה M הנמצאת על

ציר ה- x . המעגל חותך את ציר ה- x בנקודה A.

מסמנים את ראשית הצירים ב-O.

ידוע כי A היא אמצע הקטע MO ושיעוריה הם: $A(5, 0)$.

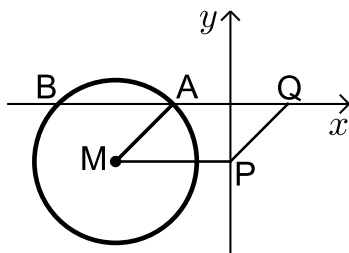
א. מצא את משוואת המעגל.

ב. כתוב את משוואת הישר שעובר דרך הנקודה A ושיפועו הוא 0.5.

ג. מצא את נקודת החיתוך הנוספת של הישר שמצאת עם המעגל.

ד. סמן את הנקודה שמצאת בסעיף הקודם ב-B וחשב

את שטח המשולש AMB.



36) באיור שלפניך נתון מעגל שמשוואתו

$$\text{היא: } (x+4)^2 + (y+2)^2 = 8$$

מסמנים את נקודות החיתוך של המעגל עם ציר ה- x

ב-A ו-B (ראה איור).

א. מצא את שיעורי הנקודות A ו-B.

מעבירים אנך לציר ה- y מנקודת מרכז המעגל M

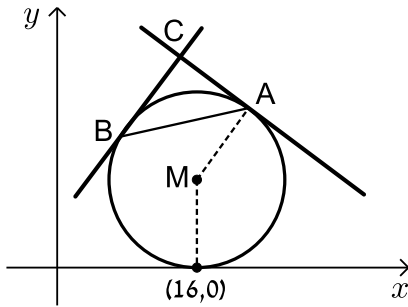
ומסמנים את חיתוכם ב-P.

ב. מצא נקודה Q כך שהמרובע AMPQ יהיה מקבילית. נמק.

ג. כתוב את משוואת הישר PQ.

ד. הוכח כי הישר שמצאת בסעיף הקודם משיק למעגל

בנקודה $(-2, -4)$.



37 נתון מעגל שרדיוסו R ($R < 16$) ומשיק לציר ה- x

בנקודה שבה: $x = 16$.

א. הבע באמצעות R את משוואת המעגל וציין האם הוא חותך את ציר ה- y או לא. נמק.

מהנקודה $A(22,18)$ שעל המעגל מעבירים משיק.

ב. מצא את R וכתוב את משוואת המעגל.

ג. כתוב את משוואת המשיק למעגל בנקודה A .

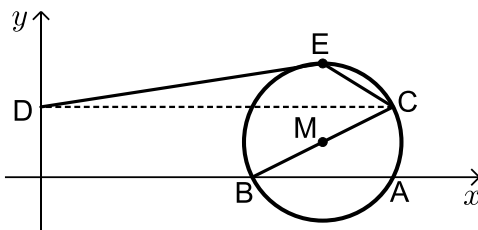
ד. מצא את משוואת המשיק למעגל בנקודה B שבה $x_B < x_M$

אם ידוע כי הוא המאונך למשיק הקודם.

ה. המשיקים נחתכים בנקודה C .

i. מצא את שיעורי הנקודה C .

ii. מצא את שטח המשולש ABC .



38 באיור שלפניך נתון מעגל

שמשוואתו: $(x+a)^2 + (y-1)^2 = 5$, פרמטר a .

ידוע כי המעגל חותך את ציר ה- x בנקודה $A(10,0)$.

א. מצא את a אם ידוע כי $a > -10$.

ב. מצא את הנקודה B - נקודת החיתוך השנייה של המעגל עם ציר ה- x .

ג. כתוב את משוואת הקוטר העובר דרך הנקודה B ומרכז המעגל M .

ד. מצא את נקודת החיתוך השנייה של הקוטר עם המעגל.

ה. מעבירים אנך מנקודת החיתוך שמצאת בסעיף הקודם לציר ה- y בנקודה D .

הנקודה E היא הנקודה בעלת שיעור ה- y הגדול ביותר על המעגל.

מחברים את הנקודות D ו- E כך שנוצר המחומש $DECBO$. חשב את שטחו.

39 באיור שלפניך נתון מעגל שמשוואתו: $(x-5)^2 + (y-3)^2 = R^2$, רדיוס המעגל.

ידוע כי המעגל עובר בראשית הצירים.

א. מצא את רדיוס המעגל

וכתוב את משוואת המעגל.

ב. מצא את הנקודות A ו- B - החיתוך של

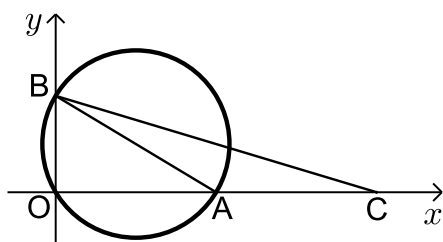
המעגל עם הצירים (ראה איור).

ג. מסמנים נקודה C על ציר ה- x

כך ש- A היא אמצע הקטע CO .

i. מצא את שיעורי הנקודה C .

ii. חשב את שטח המשולש ABC .



תשובות סופיות:

(22) א. $(0, -8)$, $(6, 0)$, $(0, 0)$ ב. 27 יח"ש.

(23) 12.5 יחידות אורך.

(24) $S_{ABOC} = \sqrt{80}$ יח"ש

(25) $y = -x + 8$, $(x - 8)^2 + (y - 8)^2 = 32$

(26) א. $(2, 8)$ ב. $(x + 9)^2 + (y - 1)^2 = 170$ ג. $(4, 2)$

(27) א. i. $B(12, 10)$ ii. $A(22, 0)$ ב. $(x - 22)^2 + (y - 10)^2 = 100$

(28) א. $R = 10$ ב. $B(1, -4)$, $C(1, 12)$ ג. i. $d = 16$

ii. $S = 128$

(29) א. $y = 8x - 2$, $y = -2x - 2$ ב. $(-24, 16)$ ג. $x^2 + (y + 2)^2 = 900$

(30) א. $O(0, 0)$, $A(0, 6)$, $B(8, 0)$ ב. $C(8, 6)$ ג. 28 יח"ש $P =$

(31) א. $a = 1$ ב. $(0, -1)$, $(-2, 3)$ ג. $y = -2x - 1$

ד. $S = \frac{1}{4}$

(32) א. i. $d = 15$ ii. $x = 18$ ב. $(x - 9)^2 + (y - 12)^2 = 81$

ג. המעגל אינו חותך את ציר ה- x - כאשר מציבים ב- y אפס מתקבלת משוואה ריבועיתללא פתרון. המעגל חותך את ציר ה- x בנקודה אחת- $(12, 0)$.

(33) א. $(x - 15)^2 + (y - 12)^2 = 225$ ב. $C(24, 0)$, $D(24, 24)$ ג. $y = -\frac{3}{4}x + 42$

(34) א. $y = \frac{7}{6}x + 3$ ב. i. $M(6, 10)$ ii. $\sqrt{85}$

iii. $(x - 6)^2 + (y - 10)^2 = 85$ ג. $A(0, 17)$, $B(0, 3)$ ד. 42 יח"ש

(35) א. $(x - 10)^2 + y^2 = 25$ ב. $y = 0.5x - 2.5$ ג. $B(13, 4)$

ד. 10 יח"ש $S_{AMB} =$

(36) א. $A(-2,0)$, $B(-6,0)$ ב. $Q(2,0)$ ג. $y = x - 2$.

(37) א. $(x-16)^2 + (y-R)^2 = R^2$, המעגל אינו חותך את ציר ה- y .

ב. $(x-16)^2 + (y-10)^2 = 100$, $R = 10$ ג. $y = -\frac{3}{4}x + 34\frac{1}{2}$.

ד. $y = \frac{4}{3}x + 5\frac{1}{3}$ ה. i. $C(14,24)$ ii. 50 יח"ש.

(38) א. $a = -8$ ב. $B(6,0)$ ג. $y = 0.5x - 3$.

ד. $(10,2)$ ה. $S_{\text{DECB0}} = 11 + 5\sqrt{5}$ יח"ש.

(39) א. $\sqrt{34}$ יחידות אורך, $R = \sqrt{34}$, $(x-5)^2 + (y-3)^2 = 34$ ב. $A(10,0)$, $B(0,6)$.

ג. i. $C(20,0)$ ii. 30 יח"ש S_{ABC} .

כתיבת משוואת מעגל עם השלמה לריבוע:

שאלות:

(1) מצא את מרכזם ורדיוסם של המעגלים הבאים:

א. $x^2 + 10x + y^2 + 6y - 2 = 0$ ב. $x^2 - 2x + y^2 + 20y + 1 = 0$

ג. $x^2 - 8x + y^2 - 14y = 0$ ד. $x^2 + y^2 + 2y = 0$

ה. $x^2 + x + y^2 - 3\frac{3}{4} = 0$ ו. $x^2 - 2mx + y^2 + 6my + m^2 = 0$

(2) משוואתו של מעגל היא $x^2 + y^2 - 6mx - 2(m+2)y + 4m + 4 = 0$.

מצא את ערכו של m אם ידוע שמרכז המעגל נמצא על הישר $y = 2x + 7$.

(3) משוואתו של מעגל היא $x^2 + y^2 - 8x + 12y - 48 = 0$.

מצא את אורכו של המיתר שחותך הישר $y = 2x - 4$ מהמעגל בלי למצוא את נקודות הקצה של המיתר.

תשובות סופיות:

(1) א. $M(-5, -3), R = 6$ ב. $M(1, -10), R = 10$

ג. $M(4, 7), R = \sqrt{65}$ ד. $M(0, -1), R = 1$

ה. $M\left(-\frac{1}{2}, 0\right), R = 2$ ו. $M(m, -3m), R = 3m$

(2) $m = -1$

(3) $2\sqrt{80}$

משוואות המשיקים למעגל:

שאלות:

- (4) מצא משוואת מעגל העובר בנקודה $(1, 8)$ המשיק לשני הצירים.
- (5) מצא את אורך המשיק למעגל שמשוואתו $x^2 + y^2 - 4x + 14y + 37 = 0$ היוצא מהנקודה $A(10, -3)$.
- (6) מצא את משוואת המשיק ואת משוואת הנורמל למעגל שמשוואתו $x^2 + y^2 - 4x + 6y + 3 = 0$ בנקודה $A(5, -4)$.
- (7) מצא את נקודת החיתוך של המשיקים למעגל שמשוואתו $x^2 + (y-1)^2 = 5$ בנקודות שבהן $x = -1$.
- (8) נתון מעגל שמרכזו בנקודה $(-2, 6)$ והוא עובר בראשית הצירים. המעגל חותך את הצירים בשתי נקודות נוספות, A ו-B.
 א. הוכח כי המשיקים למעגל בנקודות A ו-B מקבילים זה לזה.
 ב. הוכח את סעיף א' בלי למצוא את משוואות המשיקים או את שיפועיהם.
- (9) נתון המעגל $(x-1)^2 + (y-3)^2 = 20$ והישר $y = 2x + m$.
 לאלו ערכים של הפרמטר m הישר משיק למעגל ולאלו ערכים של m הישר חותך את המעגל?

תשובות סופיות:

$$(4) \quad (x-13)^2 + (y-13)^2 = 169 \text{ או } (x-5)^2 + (y-5)^2 = 25$$

$$(5) \quad .8$$

$$(6) \quad \text{משיק: } y = 3x - 19, \text{ נורמל: } x + 3y + 7 = 0$$

$$(7) \quad .(-5,1)$$

$$(8) \quad \text{שאלת הוכחה.}$$

$$(9) \quad \text{משיק: } m = -9, 11, \text{ חותך: } -9 < m < 11$$

מיתר המחבר שתי נקודות השקה:

סיכום כללי:

משוואת המיתר, המחבר את שתי נקודות ההשקה של שני המשיקים

למעגל $(x-a)^2 = (y-b)^2 = R^2$ היוצאים מהנקודה $A(x_1, y_1)$ שמחוץ

למעגל היא: $(x-a)(x_1-a) + (y-b)(y_1-b) = R^2$.

שאלות:

10) ענה על הסעיפים הבאים:

א. מצא את משוואת המיתר במעגל שמשוואתו $x^2 + y^2 + 2x - 19 = 0$,

המחבר את נקודות ההשקה של המשיקים היוצאים מהנקודה $A(-3, 8)$

ב. מצא את משוואת המיתר במעגל שמשוואתו $x^2 + (y-1)^2 = 5$, המחבר

את נקודות ההשקה של המשיקים היוצאים מהנקודה $A(-5, 1)$.

11) נתון מעגל שמשוואתו $x^2 + y^2 + 16x + 48 = 0$ ונקודה P, שנמצאת על החלק

החיובי של ציר ה-y. הישר המחבר את נקודות ההשקה של המשיקים

היוצאים למעגל מנקודה P חותך את ציר ה-y בנקודה Q. נתון: $PQ = 14$.

מצא את שיעורי הנקודה Q.

תשובות סופיות:

10) א. $x - 4y + 11 = 0$ ב. $x = -1$

11) $Q(0, -8)$ או $Q(0, -6)$.

שאלות מסכמות שונות:

שאלות:

12 נתון מעגל שמשוואתו $x^2 + y^2 + 16x - 12y + 64 = 0$. המעגל משיק מבחוץ למעגל קנוני. מצא את משוואת המעגל הקנוני, את נקודת ההשקה בין המעגלים ואת משוואת המשיק המשותף העובר בנקודה זו.

13 המעגלים $x^2 + y^2 + 22x - 6y = m$ ו- $x^2 + y^2 = 26$ נחתכים בזווית ישרה. מצא את ערכו של m .

14 בטרפז שווה שוקיים ABCD נתון כי הבסיס הגדול, DC, מונח על הישר: $3x - y - 9 = 0$ והשוק AD מונחת על הישר $x + y - 3 = 0$. שיעורי הקודקוד B הם $(3, -8)$. מצא את משוואת המעגל החוסם את הטרפז ABCD.

15 מצא את משוואתו של מעגל החוסם ריבוע, שאחד מקדקודיו נמצא בראשית הצירים ומשוואת אחד מאלכסונו היא $3x - y + 10 = 0$.

תשובות סופיות:

12 $x^2 + y^2 = 16$, $A(-3.2, 2.4)$, $4x - 3y + 20 = 0$

13 $m = -26$

14 $(x-1)^2 + (y+4)^2 = 20$

15 $(x+3)^2 + (y-1)^2 = 10$

מכינה במתמטיקה להנדסת מכונות

פרק 28 - וקטורים גיאומטריים

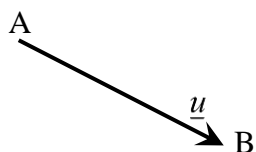
תוכן העניינים

- 464 1. הגדרות וכללים יסודיים.
- 469 2. וקטורים הפורשים מישור.
- 473 3. מכפלה סקלרית וחישוב גודל של וקטור.

הגדרות וכללים יסודיים:

סיכום כללי:

הגדרה כללית:

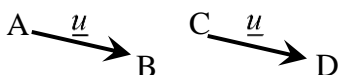


להלן תיאור של ווקטור גיאומטרי: ווקטור שמוצאו בנקודה A ומסתיים בנקודה B יסומן באופן הבא: \overline{AB} .

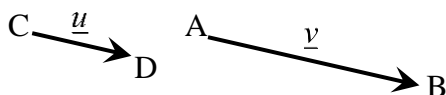
ניתן לסמן ווקטור באות קטנה באופן הבא: \underline{u} (אותיות מקובלות לסימון הן: $\underline{u}, \underline{v}, \underline{w}$).
מהאיור לעיל מתקיים: $\overline{AB} = \underline{u}$.

קשרים בין ווקטורים:

- ווקטורים שווים: שני ווקטורים נקראים שווים אם הם זהים בגודלם ובכיוונם. דוגמא לווקטורים שווים: מתקיים: $\overline{AB} = \overline{CD}$.



- ווקטורים מקבילים: שני ווקטורים שכיוונם זהה נקראים מקבילים. ניתן להביע את האחד באמצעות השני ע"י כפל בסקלר. ווקטורים מקבילים נקראים גם "ווקטורים תלויים ליניארית". דוגמא לתלות בין ווקטורים מקבילים:

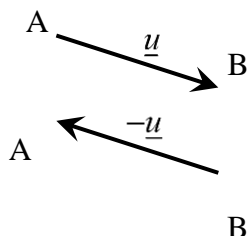


עבור $\alpha > 1$ מתקיים: $\underline{v} = \alpha \underline{u}$, או: $\overline{AB} = \alpha \cdot \overline{CD}$.

- אם זוג ווקטורים במרחב: $\overline{AB} = \alpha \underline{u} + \beta \underline{v} + \gamma \underline{w}$ ו- $\overline{CD} = a \underline{u} + b \underline{v} + c \underline{w}$ מקבילים

$$\frac{\alpha}{a} = \frac{\beta}{b} = \frac{\gamma}{c}$$

אז מתקיים:

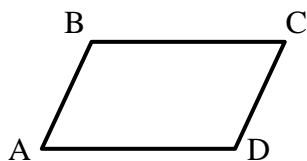


- ווקטור המסומן \overline{BA} הוא בעל גודל זהה לווקטור \overline{AB} וכיוון הפוך לו. במקרה זה מתקיים: $\overline{BA} = -\underline{u}$.

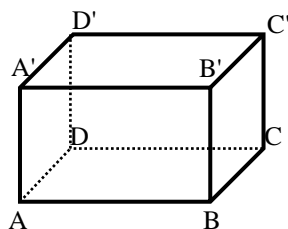
הערה:

שני ווקטורים \underline{u} ו- \underline{v} יקראו מקבילים אם מתקיים: $\underline{v} = \alpha \underline{u}$ כאשר הגודל α יכול לקבל כל ערך מספרי בתחום $\alpha \neq 0$. בפרט עבור $\alpha < 0$ כיוונם הפוך ב- 180° .

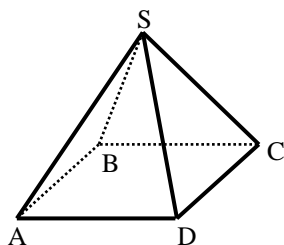
שאלות:



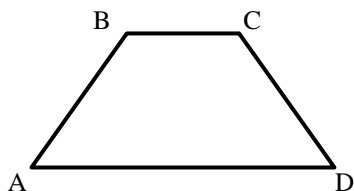
(1) במקבילית ABCD נתון: $\overline{AB} = \underline{u}$, $\overline{AD} = \underline{v}$
מצא את כל הווקטורים במקבילית ששווים ל- \underline{u} או \underline{v} .



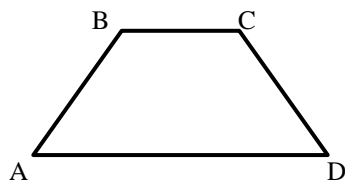
(2) בתיבה ABCDA'B'C'D' נתון: $\overline{AB} = \underline{u}$, $\overline{AD} = \underline{v}$, $\overline{AA'} = \underline{w}$
מצא את כל הווקטורים בתיבה ששווים ל- \underline{u} , \underline{v} או \underline{w} .



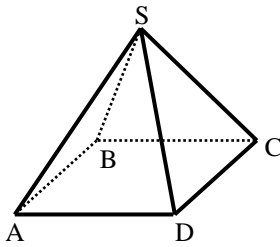
(3) בפירמידה SABCD שבסיסה ריבוע נתון: $\overline{AB} = \underline{u}$, $\overline{AD} = \underline{v}$, $\overline{AS} = \underline{w}$
מצא את כל הווקטורים שבפירמידה השווים ל- \underline{u} , \underline{v} או \underline{w} .



(4) בטרפז ABCD שבשרטוט נתון: $\overline{AB} = \underline{u}$, $\overline{AD} = \underline{v}$, $AD = 3BC$
מצא את כל הווקטורים בטרפז שניתן להביע באמצעות \underline{u} או \underline{v} .



(5) בטרפז ABCD שבשרטוט נתון: $\overline{AB} = \underline{u}$, $\overline{AD} = \underline{v}$, $AD = 3BC$
א. הבע באמצעות \underline{u} ו- \underline{v} את הווקטורים \overline{AC} ו- \overline{DC} .
ב. הנקודה E היא אמצע הצלע AD. הבע באמצעות \underline{u} ו- \underline{v} את הווקטור \overline{BE} .
ג. הנקודה F היא אמצע הצלע CD. הבע באמצעות \underline{u} ו- \underline{v} את הווקטור \overline{AF} .



6 בפירמידה $SABCD$ שבסיסה ריבוע

נתון: $\overline{AB} = \underline{u}$, $\overline{AD} = \underline{v}$, $\overline{AS} = \underline{w}$.

א. הבע באמצעות \underline{u} , \underline{v} ו- \underline{w} את

הווקטורים \overline{AC} ו- \overline{SC} .

ב. הנקודה N היא אמצע המקצוע SD .

הבע באמצעות \underline{u} , \underline{v} ו- \underline{w} את הווקטור \overline{BN} .

7 הנקודה P נמצאת על הקטע AB כך ש: $AP:PB = 2:3$. נתון: $\overline{AB} = \underline{u}$.

הבע באמצעות \underline{u} את הווקטורים \overline{AP} ו- \overline{PB} .

8 הנקודה P נמצאת על הקטע AB כך ש: $AP:PB = 3:5$. נתון: $\overline{AP} = \underline{u}$.

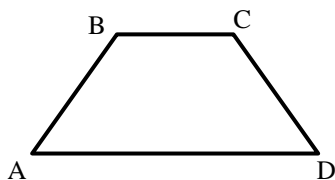
הבע באמצעות \underline{u} את הווקטורים \overline{PB} ו- \overline{AB} .

9 הנקודה P נמצאת על הקטע AB כך ש: $\frac{AP}{AB} = \alpha$. נתון: $\overline{AB} = \underline{u}$.

הבע באמצעות \underline{u} את הווקטורים \overline{AP} ו- \overline{PB} .

10 הנקודה P נמצאת על הקטע AB כך ש: $\frac{AP}{PB} = \alpha$. נתון: $\overline{AB} = \underline{u}$.

הבע באמצעות \underline{u} את הווקטורים \overline{AP} ו- \overline{PB} .



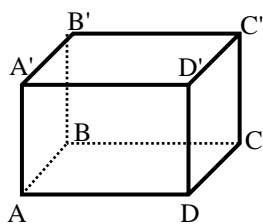
11 בטרפז $ABCD$ שבשרטוט

נתון: $\overline{AB} = \underline{u}$, $\overline{AD} = \underline{v}$, $AD = 3BC$.

הנקודה F נמצאת על הצלע CD

ומקיימת: $\frac{DF}{FC} = \beta$.

הבע באמצעות \underline{u} , \underline{v} ו- β את הווקטור \overline{AF} .

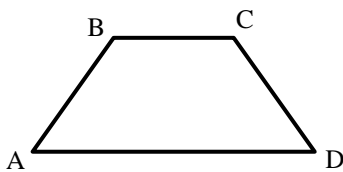


(12) בתיבה $ABCD A'B'C'D'$ נתון: $\overline{AB} = \underline{u}$, $\overline{AD} = \underline{v}$, $\overline{AA'} = \underline{w}$

הנקודה P נמצאת על המקצוע $A'B'$ ומקיימת: $\frac{AP}{A'B'} = \alpha$

והנקודה Q נמצאת על המקצוע CC' ומקיימת: $\frac{CQ}{QC'} = \beta$

הבע באמצעות α , \underline{u} , \underline{v} , \underline{w} את הווקטור: \overline{PQ} .

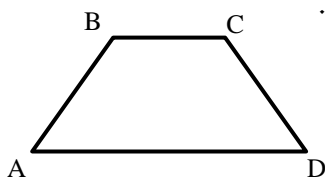


(13) בטרפז ABCD שבשרטוט נתון: $\overline{AB} = \underline{u}$, $\overline{AD} = \underline{v}$, $AD = 3BC$

הנקודה E נמצאת באמצע הצלע CD.

הנקודה F נמצאת על הצלע AD ומקיימת: $\frac{AF}{FD} = \alpha$

מצא את ערכו של α שבעבורו מתקיים $\overline{FE} \parallel \overline{AB}$.

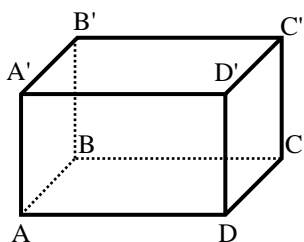


(14) בטרפז ABCD שבשרטוט נתון: $\overline{AB} = \underline{u}$, $\overline{AD} = \underline{v}$, $AD = 3BC$

הנקודה E נמצאת באמצע הצלע CD.

הנקודה F נמצאת על הצלע AD ומקיימת: $\frac{AF}{FD} = \alpha$

מצא את ערכו של α שבעבורו מתקיים: $\overline{FE} \parallel \overline{AC}$.



(15) בתיבה $ABCD A'B'C'D'$ נתון: $\overline{AB} = \underline{u}$, $\overline{AD} = \underline{v}$, $\overline{AA'} = \underline{w}$

הנקודה P נמצאת על המקצוע $A'B'$ ומקיימת: $\frac{AP}{A'B'} = \alpha$

והנקודה Q נמצאת על המקצוע CC' ומקיימת: $\frac{CQ}{QC'} = \beta$

א. הבע באמצעות α , \underline{u} , \underline{v} , \underline{w} את הווקטור \overline{PQ} .

ב. האם קיימים ערכי α ו- β שבעבורם $\overline{PQ} \parallel \overline{AC}$? נמק.

ג. הנקודה E היא מפגש אלכסוני הפאה $ABB'A'$.

מצא את ערכי α ו- β אם נתון כי $\overline{PQ} \parallel \overline{EC}$.

תשובות סופיות:

$$\underline{u} = \overline{DC}, \underline{v} = \overline{BC} \quad (1)$$

$$\underline{w} = \overline{AA'} = \overline{DD'} = \overline{CC'} = \overline{BB'}, \underline{u} = \overline{DC} = \overline{D'C'} = \overline{A'B'} = \overline{AB}, \underline{v} = \overline{AD} = \overline{BC} = \overline{A'D'} = \overline{B'C'} \quad (2)$$

$$\underline{u} = \overline{AB} = \overline{DC}, \underline{v} = \overline{AD} = \overline{BC}, \underline{w} = \overline{AS} \quad (3)$$

$$\overline{BC} = \frac{1}{3}\underline{v} \quad (4)$$

$$\overline{AF} = \frac{1}{2}\underline{u} + \frac{2}{3}\underline{v} \quad \text{ג.} \quad \overline{BE} = -\underline{u} + \frac{1}{2}\underline{v} \quad \text{ב.} \quad \overline{AC} = \underline{u} + \frac{1}{3}\underline{v}, \overline{DC} = \underline{u} - \frac{2}{3}\underline{v} \quad \text{א.} \quad (5)$$

$$\overline{BN} = -\underline{u} + \frac{1}{2}\underline{v} + \frac{1}{2}\underline{w} \quad \text{ב.} \quad \overline{AC} = \underline{u} + \underline{v}, \overline{SC} = \underline{u} + \underline{v} - \underline{w} \quad \text{א.} \quad (6)$$

$$\overline{AP} = \frac{2}{5}\underline{u}, \overline{BP} = \frac{3}{5}\underline{u} \quad (7)$$

$$\overline{AB} = \frac{8}{3}\underline{u}, \overline{PB} = \frac{5}{3}\underline{u} \quad (8)$$

$$\overline{AP} = \alpha\underline{u}, \overline{PB} = (1-\alpha)\underline{u} \quad (9)$$

$$\overline{AP} = \frac{\alpha}{1+\alpha}\underline{u}, \overline{PB} = \frac{1}{1+\alpha}\underline{u} \quad (10)$$

$$\overline{AF} = \frac{\beta}{1+\beta}\underline{u} + \frac{3+\beta}{3+3\beta}\underline{v} \quad (11)$$

$$\overline{PQ} = (1-\alpha)\underline{u} + \underline{v} - \frac{1}{1+\beta}\underline{w} \quad (12)$$

$$\alpha = 2 \quad (13)$$

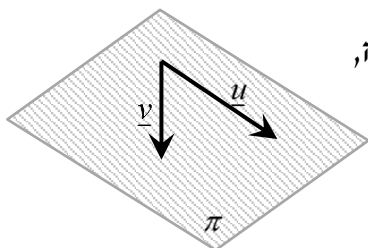
$$\alpha = 1 \quad (14)$$

$$\alpha = \frac{1}{2}, \beta = 1 \quad \text{ג.} \quad \text{א.} \quad \overline{PQ} = (1-\alpha)\underline{u} + \underline{v} - \frac{1}{1+\beta}\underline{w} \quad \text{א.} \quad (15)$$

ווקטורים הפורשים מישור:

סיכום כללי:

ווקטורים הפורשים מישור:



כל שני ווקטורים שאינם מקבילים, כלומר, בלתי תלויים זה בזה, פורשים מישור.

דוגמא:

הווקטורים \underline{u} ו- \underline{v} בעלי כוונים שונים ולכן פורשים את המישור π .

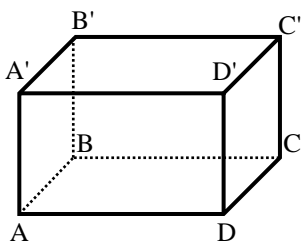
קומבינציה ליניארית של ווקטורים:

- כל ווקטור שנמצא במישור (או מקביל למישור זה) ניתן להצגה ע"י קומבינציה ליניארית של שני ווקטורים הפורשים את המישור.
- כל ווקטור שהוא קומבינציה ליניארית של שני ווקטורים הפורשים את המישור, מקביל למישור.
- אם ניתן להביע ווקטור שקומבינציה ליניארית של שני ווקטורים אחרים (או יותר) אז שלושת הווקטורים נקראים תלויים ליניארית (ניתן לבטא כל ווקטור באמצעות האחרים).

דוגמא:

עבור המישור הנפרש לעיל, ניתן להציג כל ווקטור \underline{w} המוכל, או מקביל למישור π באופן הבא: $\underline{w} = \alpha \cdot \underline{u} + \beta \cdot \underline{v}$ כאשר: α, β מספרים ממשיים כלשהם. במקרה זה שלושת הווקטורים $\underline{u}, \underline{v}$ ו- \underline{w} נקראים תלויים ליניארית.

שאלות:



16) בתיבה $ABCD A'B'C'D'$ נתון: $\overline{AB} = \underline{u}$, $\overline{AD} = \underline{v}$, $\overline{AA'} = \underline{w}$.

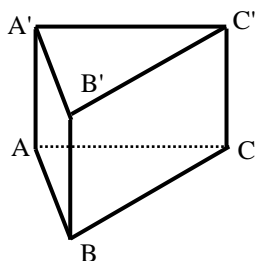
הנקודה P נמצאת על המקצוע $A'B'$ ומקיימת: $\frac{AP}{A'B'} = \alpha$

והנקודה Q נמצאת על המקצוע CC' ומקיימת: $\frac{CQ}{QC'} = \beta$

א. הבע באמצעות α , \underline{u} , \underline{v} , \underline{w} ו- β את הווקטור \overline{PQ} .

ב. מהו ערכו של α שבעבורו הווקטור \overline{PQ} מקביל לפאה $ADD'A'$?

ג. האם קיים ערך של β שבעבורו הווקטור \overline{PQ} מקביל לבסיס ABCD?



17) נתונה מנסרה משולשת $ABCA'B'C'$

ובה נתון: $\overline{AB} = \underline{u}$, $\overline{AC} = \underline{v}$, $\overline{AA'} = \underline{w}$.

הנקודה M נמצאת על המקצוע $A'C'$ ומקיימת: $\frac{AM}{MC'} = \alpha$

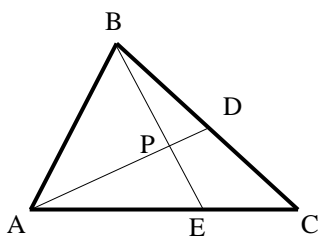
והנקודה N נמצאת על המקצוע BC ומקיימת: $\frac{BN}{BC} = \beta$

א. הבע באמצעות α , \underline{u} , \underline{v} , \underline{w} ו- β את הווקטור \overline{NM} .

ב. מהו ערכו של β שבעבורו הווקטור \overline{NM} מקביל לפאה $ACC'A'$?

ג. נתון כי הווקטור \overline{NM} מקביל לפאה $ABB'A'$.

הבע את α באמצעות β .



18) במשולש ABC הנקודה D היא אמצע הצלע BC

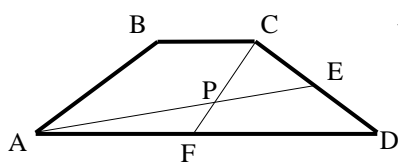
והנקודה E נמצאת על הצלע AC כך שמתקיים: $\frac{AE}{CE} = 2$.

הנקודה P היא מפגש הקטעים AD ו-BE.

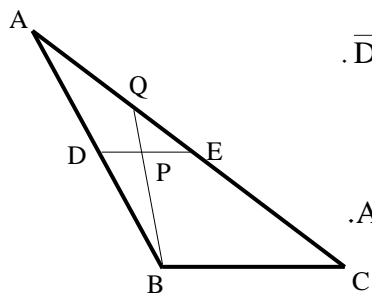
נגדיר: $\overline{BP} = s \cdot \overline{BE}$, $\overline{AP} = t \cdot \overline{AD}$; וכן, $\overline{AB} = \underline{u}$, $\overline{AC} = \underline{v}$.

א. הבע באמצעות \underline{u} , \underline{v} , t ו- s את הווקטור \overline{AP} בשתי דרכים שונות.

ב. מצא באיזה יחס מחלקת הנקודה P את הקטע AD ואת הקטע BE.

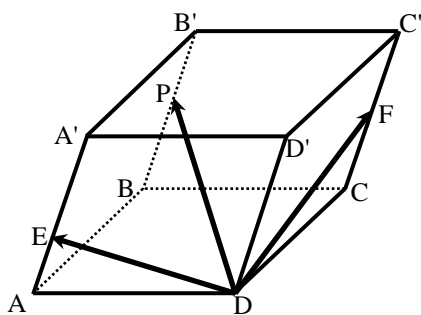


- (19)** בטרפז $ABCD$, $(AD \parallel BC)$, שבשרטוט נתון: $AD = 3BC$.
 הנקודה E נמצאת באמצע הצלע CD
 והנקודה F נמצאת באמצע הצלע AD .
 הנקודה P היא מפגש הקטעים AE ו- CF .
 מצא באיזה יחס מחלקת הנקודה P את הקטע AE ואת הקטע CF .



- (20)** במשולש ABC הנקודה D היא אמצע הצלע AB
 והנקודה E נמצאת על הצלע AC כך שמתקיים: $\overline{DE} \parallel \overline{BC}$.
 הנקודה P היא אמצע הקטע DE והמשך הקטע BP
 חותך את הצלע AC בנקודה Q .

- א. מצא באיזה יחס מחלקת הנקודה Q את הצלע AC .
 ב. חשב את היחס: $\frac{S_{AQPE}}{S_{ADPB}}$.



- (21)** במקבילון $ABCD A'B'C'D'$
 נתון: $\overline{DA} = \underline{u}$, $\overline{DC} = \underline{v}$, $\overline{DD'} = \underline{w}$.
 הנקודה F נמצאת באמצע המקצוע CC' ,
 הנקודה E נמצאת על המקצוע AA'
 ומקיימת: $A'E = 2AE$ והנקודה P נמצאת על
 המקצוע BB' ומקיימת: $\overline{B'P} = k \cdot \overline{B'B}$.
 נתון: $\overline{DP} = t \cdot \overline{DE} + s \cdot \overline{DF}$.

- א. הבע באמצעות \underline{u} , \underline{v} , \underline{w} ו- k את הווקטור \overline{DP} .
 ב. מצא באיזה יחס מחלקת הנקודה P את המקצוע BB' .
 ג. האם הנקודות D, E, F, P נמצאות על אותו מישור? נמק.

תשובות סופיות:

$$\overline{PQ} = (1-\alpha)\underline{u} + \underline{v} - \frac{1}{1+\beta}\underline{w} \quad \text{א. (16)} \quad \text{ב. } \alpha = 1 \quad \text{ג. לא.}$$

$$\overline{NM} = (\beta-1)\underline{u} + \left(\frac{\alpha}{\alpha+1} - \beta\right)\underline{v} + \underline{w} \quad \text{א. (17)} \quad \text{ב. } \beta = 1 \quad \text{ג. } \alpha = \frac{\beta}{1-\beta}$$

$$\overline{AP} = \frac{1}{2}t\underline{u} + \frac{1}{2}t\underline{v}, \quad \overline{AP} = (1-s)\underline{u} + \frac{2}{3}s\underline{v} \quad \text{א. (18)} \quad \text{ב. } BP:PE = 3:2, AP:PD = 4:1$$

$$AP:PE = 2:1, \quad CP:PF = 2:1 \quad \text{(19)}$$

$$\frac{S_{QPE}}{S_{DPB}} = \frac{1}{3} \quad \text{ב.} \quad \text{א. } AQ:QC = 1:2 \quad \text{(20)}$$

$$\overline{DP} = \underline{u} + \underline{v} + (1-k)\underline{w} \quad \text{א. (21)} \quad \text{ב. } BP:PB = 1:5 \quad \text{ג. כן.}$$

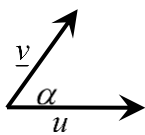
מכפלה סקלרית וחישוב גודל של וקטור:

סיכום כללי:

מכפלה סקלרית של שני ווקטורים \underline{u} ו- \underline{v} תסומן: $\underline{u} \cdot \underline{v}$ ותחושב ע"י הנוסחה הבאה:

$$\underline{u} \cdot \underline{v} = |\underline{u}| \cdot |\underline{v}| \cdot \cos \alpha$$

כאשר α היא הזווית הנוצרת בין נקודת חיבור מוצאי הווקטורים ובין כיווני הווקטורים כמתואר באיור.



ניתן למצוא את הזווית שבין שני ווקטורים ע"י: $\cos \alpha = \frac{\underline{u} \cdot \underline{v}}{|\underline{u}| \cdot |\underline{v}|}$

גודל של ווקטור נתון ע"י: $|\underline{u}| = \sqrt{u^2}$, או: $|\underline{u}|^2 = u^2$

הערה:

המכפלה הסקלרית $\underline{u} \cdot \underline{v}$ בין שני ווקטורים מקבלת ערך מספרי בלבד! היא יכולה להיות חיובית, שלילית או אפס כפי שנראה בהמשך.

שאלות:

22 חשב את המכפלה הסקלרית של הווקטורים \underline{u} ו- \underline{v} על פי הנתונים על גודלם והזווית שביניהם:

- | | |
|--|---|
| א. $\alpha = 60^\circ$, $ \underline{v} = 2$, $ \underline{u} = 3$ | ב. $\alpha = 120^\circ$, $ \underline{v} = 5$, $ \underline{u} = 4$ |
| ג. $\alpha = 30^\circ$, $ \underline{v} = 6$, $ \underline{u} = 2$ | ד. $\alpha = 180^\circ$, $ \underline{v} = 3$, $ \underline{u} = 8$ |
| ה. $\alpha = 0^\circ$, $ \underline{v} = 5$, $ \underline{u} = 3$ | ו. $\alpha = 90^\circ$, $ \underline{v} = 4$, $ \underline{u} = 7$ |

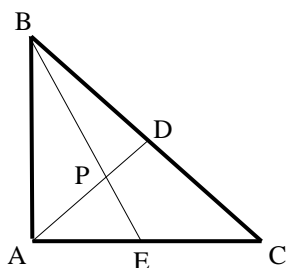
23 חשב את הזווית בין הווקטורים \underline{u} ו- \underline{v} על פי הנתונים על גודלם והמכפלה הסקלרית שלהם:

- | | |
|--|---|
| א. $\underline{u} \cdot \underline{v} = 6$, $ \underline{v} = 4$, $ \underline{u} = 3$ | ב. $\underline{u} \cdot \underline{v} = -4\sqrt{3}$, $ \underline{v} = 2$, $ \underline{u} = 4$ |
| ג. $\underline{u} \cdot \underline{v} = 0$, $ \underline{v} = 5$, $ \underline{u} = 9$ | ד. $\underline{u} \cdot \underline{v} = 12$, $ \underline{v} = 6$, $ \underline{u} = 2$ |

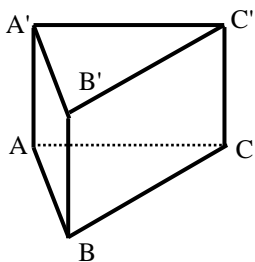
(24) נתונים שני וקטורים \underline{u} ו- \underline{v} שאורכם: $|\underline{u}|=6$, $|\underline{v}|=3$. הזווית ביניהם היא 120° .
חשב את גודלו של הווקטור \overline{PQ} שמוגדר: $\overline{PQ} = 2\underline{u} - 3\underline{v}$.

(25) נתונים שני וקטורים \underline{u} ו- \underline{v} המאונכים זה לזה שאורכם: $|\underline{u}|=4$, $|\underline{v}|=5$.
חשב את גודלו של הווקטור \overline{MN} שמוגדר: $\overline{MN} = 0.5\underline{u} - \underline{v}$.

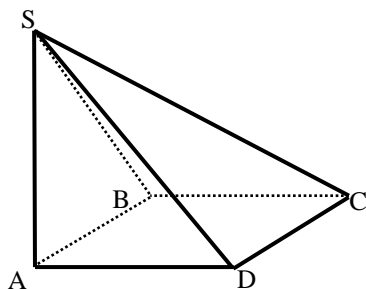
(26) נתונים שני וקטורים \underline{u} ו- \underline{v} שאורכם: $|\underline{u}|=6$, $|\underline{v}|=3$. הזווית ביניהם היא 120° .
חשב את גודל הזווית $\sphericalangle QPM$ אם נתון: $\overline{PM} = 4\underline{u} + \underline{v}$, $\overline{PQ} = 2\underline{u} - 3\underline{v}$.



(27) המשולש ABC הוא משולש ישר זווית ($\sphericalangle BAC = 90^\circ$).
הנקודה D היא אמצע היתר BC והנקודה E נמצאת על הניצב AC.
הנקודה P היא מפגש הקטעים AD ו-BE.
נתון: $AC = 12$, $AB = 8$, $\frac{AP}{PD} = 3$.
חשב את גודל הזווית $\sphericalangle DPC$.

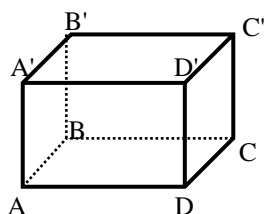


(28) נתונה מנסרה משולשת וישרה $ABCA'B'C'$ שבסיסה משולש שווה צלעות שאורך כל אחת מצלעותיו הוא 6. גובה המנסרה הוא 8.
הנקודה M היא אמצע המקצוע $A'C'$ והנקודה N נמצאת על המקצוע BC ומקיימת: $BN = 2CN$.
נסמן: $\overline{AB} = \underline{u}$, $\overline{AC} = \underline{v}$, $\overline{AA'} = \underline{w}$.
חשב את גודל הזווית: $\sphericalangle MAN$.



(29) בפירמידה SABC שבסיסה ריבוע המקצוע SA הוא גובה הפירמידה.
נתון: $AB = AD = \frac{1}{2} AS = k$.
נסמן: $\overline{AB} = \underline{u}$, $\overline{AD} = \underline{v}$, $\overline{AS} = \underline{w}$.
הנקודה Q היא אמצע המקצוע SC והנקודה P היא אמצע המקצוע SB.
חשב את גודל הזווית: $\sphericalangle PAQ$.

(30) בתיבה $ABCD A'B'C'D'$ נתון: $\overline{AA'} = \underline{w}$, $\overline{AD} = \underline{v}$, $\overline{AB} = \underline{u}$, $AB = \frac{1}{\sqrt{2}} AD = AA'$.



הנקודה P נמצאת על המקצוע $A'B'$ ומקיימת: $\frac{AP}{A'B'} = \alpha$

והנקודה Q היא אמצע המקצוע DD' .

א. מהו ערכו של α שבעבורו מתקיים: $|\overline{AP}| = \frac{5}{6} |\overline{AQ}|$?

ב. הבע באמצעות α את $\cos \angle PAQ$

והראה כי לכל ערך של α הזווית $\angle PAQ$ חדה.

ג. מהו ערכו של α שבעבורו הזווית $\angle PAQ$ מקיימת: $\cos \angle PAQ = \frac{2}{3\sqrt{5}}$?

(31) הוכח כי בכל מרובע ABCD מתקיים: $\overline{AC} \cdot \overline{BD} = \overline{AB} \cdot \overline{CD} + \overline{AD} \cdot \overline{BC}$

(32) נתון מלבן ABCD. הוכח כי לכל נקודה כלשהי P מתקיים: $\overline{PA} \cdot \overline{PC} = \overline{PB} \cdot \overline{PD}$

(33) נתון ריבוע ABCD. הנקודה P היא אמצע הצלע BC והנקודה Q היא אמצע הצלע CD.

הוכח כי מתקיים: $S_{ABCD} = \overline{AP} \cdot \overline{AQ}$

(34) נתון מרובע ABCD. הנקודה P היא אמצע הצלע AB והנקודה Q היא אמצע הצלע CD.

הוכח כי מתקיים: $\overline{PQ} = \frac{\overline{AD} + \overline{BC}}{2}$

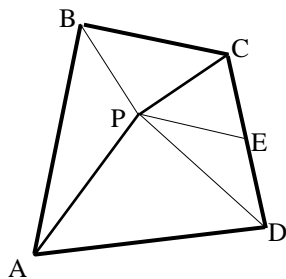
(35) נתונה פירמידה משולשת SABC שבה $\overline{AS} \perp \overline{BC}$ ו- $\overline{BS} \perp \overline{AC}$

הוכח: $\overline{CS} \perp \overline{AB}$

(36) הוכח: וקטור המאונך לשני וקטורים בלתי תלויים במישור מאונך לכל הווקטורים שבמישור.

37) ענה על הסעיפים הבאים:

- א. הנקודה M היא מפגש התיכונים במשולש ABC. הוכח: $\vec{MA} + \vec{MB} + \vec{MC} = 0$.
- ב. נתונה פירמידה משולשת SABC. הנקודה P היא מפגש התיכונים בפאה SBC. הוכח: $\vec{AP} = \frac{1}{3}(\vec{AB} + \vec{AC} + \vec{AS})$.
- ג. נתון בנוסף כי \vec{AS} ו- \vec{AP} מאונכים ל- \vec{BC} . הוכח כי $AB = AC$. (הדרכה: סמן $\vec{AB} = \underline{u}$, $\vec{AC} = \underline{v}$, $\vec{AS} = \underline{w}$).



38) הנקודה P נמצאת בתוך מרובע כלשהו ABCD

כך שהמשולשים APD ו-BPC הם משולשים ישרי זווית וש"ש ($AP = PD$, $BP = PC$).

הנקודה E היא אמצע הצלע CD. הוכח: $\vec{PE} \perp \vec{AB}$. (הדרכה: סמן $\vec{PB} = \underline{a}$, $\vec{PC} = \underline{b}$, $\vec{PA} = \underline{c}$, $\vec{PD} = \underline{d}$).

39) בטראדר SABC נתון: $\vec{AB} = \underline{u}$, $\vec{AC} = \underline{v}$, $\vec{AS} = \underline{w}$.

הנקודה P נמצאת על המקצוע AS ומקיימת: $\vec{AP} = \alpha \cdot \vec{AS}$.

הנקודה Q נמצאת על הפאה SBC ומקיימת: $\vec{SQ} = \beta(\vec{SB} + \vec{SC})$.

א. מצא את הקשר בין α ו- β שבעבורו \vec{PQ} מקביל למישור ABC.

ב. נתון: $\alpha = \beta = \frac{1}{3}$. הוכח: $\vec{PQ} \perp \vec{BC}$. $AB = AC$.

40) נתונה פירמידה שבסיסה מלבן. הוכח כי אם שלושה המקצועות הצדדיים שבה שווים, אז גם המקצוע הצדדי הרביעי שווה להם.

תשובות סופיות:

- (22) א. 3 ב. -10 ג. $6\sqrt{3}$ ד. -24 ה. 15 ו. 0.
- (23) א. 60° ב. 150° ג. 90° ד. 0°
- (24) $|\overline{PQ}| = 18.248$
- (25) $|\overline{MN}| = \sqrt{29}$
- (26) 31.87°
- (27) 55.49°
- (28) 70.623°
- (29) 24.095°
- (30) א. $\alpha = \frac{3}{4}$ ב. $\cos(\sphericalangle PAQ) = \frac{1}{3\sqrt{1+\alpha^2}}$ ג. $\alpha = \frac{1}{2}$
- (31) שאלת הוכחה.
- (32) שאלת הוכחה.
- (33) שאלת הוכחה.
- (34) שאלת הוכחה.
- (35) שאלת הוכחה.
- (36) שאלת הוכחה.
- (37) שאלת הוכחה.
- (38) שאלת הוכחה.
- (39) א. $\alpha + 2\beta = 1$ ב. שאלת הוכחה.
- (40) שאלת הוכחה.

מכינה במתמטיקה להנדסת מכונות

פרק 29 - וקטורים אלגבריים

תוכן העניינים

478	1. שאלות יסודיות עם וקטורים אלגבריים
482	2. פעולות אלגבריות בין וקטורים
484	3. גודל של וקטור
485	4. וקטורים מקבילים ושווים
486	5. זווית בין וקטורים
487	6. הצגה פרמטרית של ישר
490	7. מצב הדדי בין ישרים
493	8. הצגה פרמטרית של מישור
495	9. משוואת מישור
496	10. מעברים בין הצגה פרמטרית של מישור ומשוואת מישור
497	11. מישורים המקבילים לצירים
498	12. מצב הדדי בין ישר ומישור
500	13. מצב הדדי בין מישורים
501	14. ישר חיתוך בין מישורים
(ללא ספר)	15. חישובי זוויות שונות
502	16. זווית בין שני ישרים
504	17. זווית בין ישר ומישור
505	18. זווית בין שני מישורים
(ללא ספר)	19. חישובי מרחקים
506	20. מרחק בין שתי נקודות במרחב
507	21. מרחק בין נקודה לישר
508	22. מרחק בין נקודה למישור
509	23. מרחק בין ישרים מקבילים
510	24. מרחק בין ישר למישור
511	25. מרחק בין מישורים מקבילים
478	26. מרחק בין ישרים מצטלבים
512	

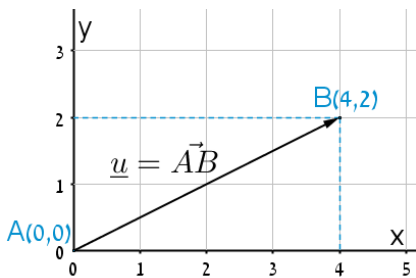
(ללא ספר)	27. סיכום מרחקים
513	28. שאלות מסכמות בוקטורים
516	29. שאלות הנפתרות עם מכפלה וקטורית

שאלות יסודיות עם וקטורים אלגבריים:

סיכום כללי:

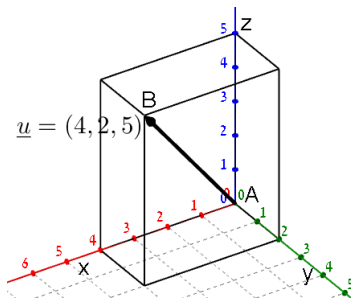
הגדרה כללית:

וקטור שמוצאו בראשית הצירים $(0,0)$ וסופו בנקודה (x, y) במישור ייכתב בצורתו האלגברית באופן הבא: $\underline{u} = (x, y)$.



דוגמאות:

- הווקטור $\underline{u} = (4, 2)$ נמצא במישור $[xy]$, מוצאו בנקודה $A(0,0)$ וסופו בנקודה $B(4,2)$.



- הווקטור: $\underline{u} = (4, 2, 5)$ נמצא במרחב הקרטזי. מוצאו בראשית הצירים $A(0,0,0)$ וסופו בנקודה: $B(4,2,5)$.

וקטור שמוצאו אינו בראשית הצירים:

וקטור שמוצאו בנקודה $A(x_1, y_1, z_1)$ וסופו בנקודה $B(x_2, y_2, z_2)$ ייכתב ע"י חישוב הפרש נקודת סופו ממוצאו באופן הבא: $\underline{u} = \overline{AB} = B - A = (x_2 - x_1, y_2 - y_1, z_2 - z_1)$.

אמצע קטע וחלוקת קטע ביחס נתון:

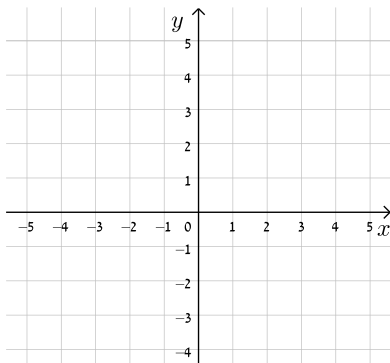
- אמצע הקטע M שקצותיו הם: $A(x_1, y_1, z_1)$ ו- $B(x_2, y_2, z_2)$

$$\text{הוא: } x_M = \frac{x_1 + x_2}{2}, y_M = \frac{y_1 + y_2}{2}, z_M = \frac{z_1 + z_2}{2}$$

- שיעורי נקודה P המחלקת קטע שקצותיו $A(x_1, y_1, z_1)$ ו- $B(x_2, y_2, z_2)$ ביחס של $k:l$ הם:

$$x_P = \frac{k \cdot x_1 + l \cdot x_2}{k+l}; y_P = \frac{k \cdot y_1 + l \cdot y_2}{k+l}; z_P = \frac{k \cdot z_1 + l \cdot z_2}{k+l}$$

שאלות:



1) שרטט את הווקטורים הבאים:

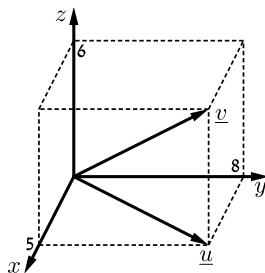
א. $\underline{u} = (4, 2)$

ב. $\underline{v} = (-5, 1)$

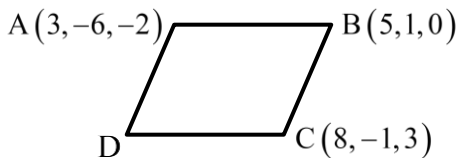
ג. $\underline{w} = (3, -4)$

ד. $\underline{a} = (0, 3)$

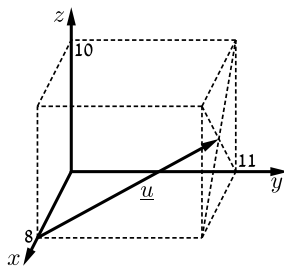
ה. $\underline{b} = (-5, 0)$



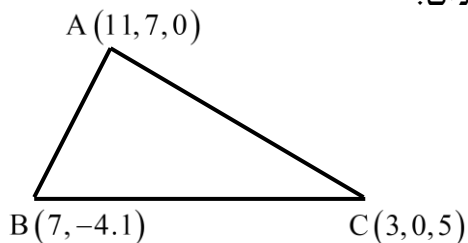
2) נתונה תיבה שמידותיה נתונות במערכת הצירים שלפניך. מצא מהו הווקטור \underline{u} ומהו הווקטור \underline{v} על פי השרטוט.



3) בשרטוט נתונה מקבילית ששיעורי שלושה מקודקודיה נתונים (ראה איור). מצא את שיעורי הקודקוד D.



4) נתונה תיבה שמידותיה נתונות במערכת הצירים שלפניך. מצא מהו הווקטור \underline{u} על פי השרטוט.



5) בשרטוט נתון משולש ששיעורי קודקודיו נתונים. מצא את שיעורי מפגש התיכונים במשולש.

6) מצא את x, y, z אם נתון ש- $\underline{u} = \underline{v}$ כאשר:

$$\underline{u} = (4, -1, 2), \quad \underline{v} = (z-2, y+1, x-3)$$

7) ענה על הסעיפים הבאים :

א. מצא את הווקטור \overline{AB} אם נתונות הנקודות $A(-3,5)$ ו- $B(6,1)$.

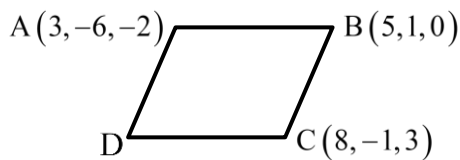
ב. מצא את שיעורי הנקודה Q אם נתונה הנקודה $P(8,11)$ והווקטור $\overline{PQ} = (4,-3)$.

8) ענה על הסעיפים הבאים :

א. מצא את הווקטור \overline{EF} אם נתונות הנקודות $E(2,0,-3)$ ו- $F(7,-1,-3)$.

ב. מצא את שיעורי הנקודה N אם נתונה הנקודה $M(0,-4,1)$

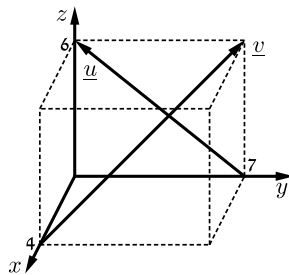
והווקטור $\overline{MN} = (-1,-1,9)$.



9) בשרטוט נתונה מקבילית ששיעורי שלושה

מקודקודיה נתונים.

מצא את שיעורי הקודקוד D .



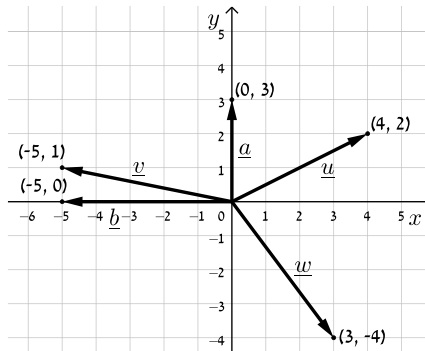
10) נתונה תיבה שמידותיה נתונות במערכת

הצירים שלפניך.

מצא מהו הווקטור \underline{u} ומהו הווקטור \underline{v} .

תשובות סופיות:

(1) להלן סרטוט:



$$\cdot \underline{u} = (5, 8, 0) , \underline{v} = (5, 8, 6) \quad (2)$$

$$\cdot D(6, -8, 1) \quad (3)$$

$$\cdot \underline{u} = (4, 11, 5) \quad (4)$$

$$\cdot (7, 1, 2) \quad (5)$$

$$\cdot x = 5 , y = -2 , z = 6 \quad (6)$$

$$\cdot Q(12, 8) \quad \text{ב.} \quad \overrightarrow{AB} = (9, -4) \quad \text{א.} \quad (7)$$

$$\cdot N(-1, -5, 10) \quad \text{ב.} \quad \overrightarrow{EF} = (5, -1, 0) \quad \text{א.} \quad (8)$$

$$\cdot D(6, -8, 1) \quad (9)$$

$$\cdot \underline{u} = (0, -7, 6) , \underline{v} = (-4, 7, 6) \quad (10)$$

פעולות אלגבריות בין וקטורים:

סיכום כללי:

מכפלה סקלרית בהצגה אלגברית:

מכפלה סקלרית של שני ווקטורים \underline{u} ו- \underline{v} תסומן: $\underline{u} \cdot \underline{v}$ ותחושב ע"י הנוסחה הבאה: $\underline{u} \cdot \underline{v} = |\underline{u}| \cdot |\underline{v}| \cdot \cos \alpha$ כאשר α היא הזווית הנוצרת בין נקודת חיבור מוצאי הווקטורים ובין כיווני הווקטורים.

מכפלה סקלרית של ווקטורים: $\underline{u} = (x_1, y_1, z_1)$, $\underline{v} = (x_2, y_2, z_2)$ תחושב באופן

$$\underline{u} \cdot \underline{v} = (x_1, y_1, z_1)(x_2, y_2, z_2) = x_1x_2 + y_1y_2 + z_1z_2$$

שאלות:

11 נתונים הווקטורים הבאים: $\underline{u} = (4, 0, 9)$, $\underline{v} = (-1, 3, -5)$

חשב את ערכי הווקטורים הבאים: $\underline{u} + \underline{v}$, $\underline{u} - \underline{v}$, $\underline{u} - 2\underline{v}$, $3\underline{u} + 2\underline{v}$

12 נתונים הווקטורים: $\underline{u} = (-3, 1, 4)$, $\underline{v} = (4, -2, -6)$, $\underline{w} = (2, 6, -5)$

חשב את:

א. $2\underline{u}$	ב. $-0.5\underline{v}$	ג. $3\underline{u} - 2\underline{v}$
ד. $0.25\underline{v} - 0.5\underline{u}$	ה. $\underline{v} - 0.5\underline{u} + 2\underline{w}$	ו. $2\underline{v} - \underline{u} + 4\underline{w}$

13 נתונות הנקודות הבאות: $A(1, -3, 0)$, $B(4, 2, -1)$, $C(3, -1, 2)$

מצא את הווקטורים הבאים:

א. $\overrightarrow{AC} + \overrightarrow{AB}$	ב. $2\overrightarrow{AC} - 4\overrightarrow{AB}$	ג. $2\overrightarrow{AC} + \overrightarrow{AB} - \overrightarrow{BC}$
--	--	---

14 נתונים שלושה ווקטורים: $\underline{u} = (6, -1, z)$, $\underline{v} = (0, y, 4)$, $\underline{w} = (x, 5, -10)$

א. מצא את ערכם של x, y, z המקיימים: $\underline{u} + 2\underline{v} = \underline{w}$

ב. מצא את ערכם של x, y, z המקיימים: $2\underline{v} - 3\underline{w} = \frac{1}{2}(\underline{u} + \underline{v})$

ג. כיצד תשתנה התוצאה של סעיף א' אם: $\underline{u} = (6, y, z)$, $\underline{v} = (y-1, 2, x)$, $\underline{w} = (x, 2z, -10)$?

15) נתונים הווקטורים \underline{u} ו- \underline{v} .

א. חשב את תוצאת המכפלה הסקלרית עבור: $\underline{u} = (-6, 2, 3)$, $\underline{v} = (4, 0, 1)$.

ב. מצא את y עבורו תוצאת המכפלה הסקלרית של הווקטורים:

$$\underline{u} = (1, 7, -6), \underline{v} = (2, y, 4).$$

ג. מצא את y עבורו הווקטורים מהסעיף הקודם יהיו מאונכים זה לזה.

תשובות סופיות:

$$11) \underline{u} + \underline{v} = (3, 3, 4); \underline{u} - \underline{v} = (5, -3, 14); \underline{u} - 2\underline{v} = (6, -6, 19); 3\underline{u} + 2\underline{v} = (10, 6, 17)$$

$$12) \text{א. } (6, -2, 8) \quad \text{ב. } (-2, 1, 3) \quad \text{ג. } (-17, 7, 24)$$

$$\text{ד. } (2.5, -1, -3.5) \quad \text{ה. } (9.5, 9.5, -18) \quad \text{ו. } (19, 19, -36)$$

$$13) \text{א. } (5, 7, 1) \quad \text{ב. } (-8, -16, 8) \quad \text{ג. } (8, 12, 0)$$

$$14) \text{א. } x = 6, y = 3, z = -18 \quad \text{ב. } x = -1, y = 9\frac{2}{3}, z = 72$$

$$\text{ג. } x = -4\frac{8}{9}, y = -4\frac{4}{9}, z = -\frac{2}{9}$$

$$15) \text{א. } \underline{u} \cdot \underline{v} = -21 \quad \text{ב. } y = 3 \quad \text{ג. } y = 3\frac{1}{7}$$

גודל של וקטור:

סיכום כללי:

גודלו של ווקטור $\underline{u} = (x_1, y_1, z_1)$ נתון ע"י: $|\underline{u}| = \sqrt{\underline{u}^2} = \sqrt{x_1^2 + y_1^2 + z_1^2}$

שאלות:

16 נתונים הווקטורים הבאים: $\underline{u} = (1, -3, 2)$, $\underline{v} = (5, -1, 0)$
 חשב את הגדלים של הווקטורים הבאים: $2\underline{v} + \underline{u}$, $4\underline{u} - 3\underline{v}$, \underline{u} , \underline{v} .

17 נתונים ארבעת קודקודי המרובע ABCD:
 $A(-4, 2, 1)$, $B(0, 2, -1)$, $C(-3, -5, 0)$, $D(-7, -5, 2)$
 הוכח כי המרובע הוא מקבילית.

תשובות סופיות:

16 $|\underline{u}| = \sqrt{14}$; $|\underline{v}| = \sqrt{26}$; $|2\underline{v} + \underline{u}| = \sqrt{150}$; $|4\underline{u} - 3\underline{v}| = \sqrt{266}$
17 הוכחה.

וקטורים מקבילים ושווים:

שאלות:

18 נתונים ארבעת קודקודי המרובע ABCD :

$$A(1,2,0), B(-2,5,3), C(-1,8,4), D(4,3,-1)$$

א. הוכח כי המרובע הוא טרפז.

ב. האם הטרפז שווה שוקיים?

19 נתונות הנקודות הבאות: $A(1,0,2), B(3,7,-4), C(6,9,0), D(7,4,10), E(9,11,4)$.

א. הראה כי: $\overline{AB} = \overline{DE}$.

ב. האם ניתן לומר כי גם $\overline{AD} = \overline{BC}$? נמק.

תשובות סופיות:

18 א. הוכחה. ב. כן.

19 א. הוכחה. ב. לא.

זווית בין וקטורים:

סיכום כללי:

• זווית α בין שני וקטורים \underline{u} , \underline{v} תחושב ע"י: $\cos \alpha = \frac{\underline{u} \cdot \underline{v}}{|\underline{u}| \cdot |\underline{v}|}$.

שאלות:

(20) חשב את הזווית שבין הווקטורים \underline{u} ו- \underline{v} :

א. $\underline{u} = (-2, 2, 5)$, $\underline{v} = (4, 0, 1)$

ב. $\underline{u} = (6, -3, 1)$, $\underline{v} = (2, 5, 3)$

ג. $\underline{u} = (-2, 1, 3)$, $\underline{v} = (4, -2, -6)$

(21) מצא את שטחו של משולש ABC שקודקודיו הם: $A(-3, 2, 1)$, $B(0, 3, 2)$, $C(5, -1, 0)$.

(22) נתונים הווקטורים: $\underline{u} = (2, -1, 0)$, $\underline{v} = (5, 0, 3)$.

מצא וקטור \underline{w} שמכפלתו ב- \underline{u} היא 0 ומכפלתו ב- \underline{v} היא 0 אם ידוע שגודלו הוא $\sqrt{70}$.

תשובות סופיות:

(20) א. 92.277° ב. 90° ג. 180° .

(21) 10.173 יח"ש.

(22) $\underline{w} = (3, 6, -5)$ או $\underline{w} = (-3, -6, 5)$.

הצגה פרמטרית של ישר:

סיכום כללי:

ישר כללי במרחב ניתן להצגה ע"י שני ווקטורים.

הווקטור \underline{a} נקרא ווקטור ההעתקה.

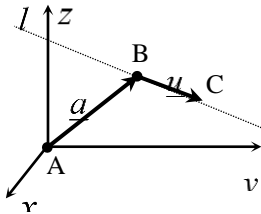
מוצאו תמיד בראשית הצירים וסופו על נקודה כלשהי על הישר הנתון.

הווקטור \underline{u} נקרא ווקטור הכיוון של הישר.

זה הוא ווקטור שנמצא על הישר עצמו מוצאו בנקודה אחת וסופו בנקודה אחרת לאורך הישר.

הקשר בין שני הווקטורים נתון ע"י: $\underline{x} = \underline{a} + t\underline{u}$

כאשר t הוא מספר ממשי כלשהו ו- \underline{x} הוא ווקטור המתקבל ע"י בחירה של t שמוצאו בראשית הצירים וסופו על נקודה על הישר l .



דוגמא: עבור הנקודות: $A(0,0,0)$, $B(5,3,1)$ ו- $C(7,0,10)$ נקבל את הווקטורים

הבאים: $\underline{a} = \overline{AB} = B - A = (5,3,1)$; $\underline{u} = \overline{BC} = C - B = (7,0,10) - (5,3,1) = (2,-3,9)$

לכן הצגה פרמטרית של הישר היא: $l: \underline{x} = (5,3,1) + t(2,-3,9)$

הערות:

- לישר יש אינסוף הצגות פרמטריות הנבדלות זו מזו בבחירת ווקטור ההעתקה ווקטור הכיוון.
- ההצגה הבאה גם מתאימה לישר שבדוגמא: $l: \underline{x} = (7,0,10) + t(-6,9,-27)$
- הווקטור \underline{x} המתקבל ע"י הצבת t_0 בהצגה פרמטרית אחת של הישר, יתקבל ע"י הצבת t_1 בהצגה פרמטרית אחרת של אותו הישר.
- הנקודה B באיור לעיל אינה בהכרח סופו של הווקטור \underline{a} ומוצאו של הווקטור \underline{u} .
- כדי לכתוב הצגה פרמטרית של ישר מספיק לקחת שתי נקודות כלשהן למציאת הווקטור \underline{u} (למשל הנקודה C יחד עם נקודה D הנמצאת על המשך הישר) ונקודה נוספת למציאת הווקטור \underline{a} .
- הצגה פרמטרית של ישר היא למעשה חיבור של שני ווקטורים גיאומטריים במרחב הנותנים ווקטור שמוצאו בראשית הצירים וסופו על הישר הנתון.

שאלות:

(23) האם הנקודה $A(7,0,3)$ נמצאת על הישר $\ell : \underline{x} = (4,3,0) + t(1,-1,1)$?

(24) האם הנקודה $B(4,-2,-10)$ נמצאת על הישר $\ell : \underline{x} = t(2,-1,5)$?

(25) מצא את הצגתו הפרמטרית של ישר במישור שעובר בנקודות $A(-5,-2)$ ו- $B(1,6)$.

(26) מצא את הצגתו הפרמטרית של ישר במרחב שעובר בנקודות $C(3,0,-2)$ ו- $D(4,1,1)$.

(27) מצא את הצגתו הפרמטרית של ישר במרחב שעובר בנקודה $G(2,-7,1)$

ומקביל לישר $\ell : \underline{x} = (0,3,-1) + t(-4,2,1)$.

(28) מצא במרחב הצגה פרמטרית של ישר העובר דרך הנקודה $(1,2,3)$

ומאונך לישר: $\ell : \underline{x} = (1,2,0) + s(1,-2,4)$.

(29) ענה על הסעיפים הבאים:

א. נתונה הצגה פרמטרית של ישר: $\ell : \underline{x} = (1,2,3) + t(4,5,6)$.

כתוב את ההצגה בעזרת הקואורדינאטות x, y, z .

ב. נתונה הצגה של ישר בעזרת קואורדינאטות: $x = 1 + 2t, y = 10, z = 4 - t$.

כתוב את ההצגה הפרמטרית שלו.

(30) מצא את הצגתו הפרמטרית של ציר ה- y במרחב.

(31) מצא את הצגתו הפרמטרית של ישר במרחב שעובר בנקודה $M(3,-1,4)$

ומקביל לציר ה- z .

(32) מצא את נקודת החיתוך של הישר $\ell : \underline{x} = (1,-2,6) + t(-2,1,2)$ עם המישור $[xy]$.

תשובות סופיות:

(23) כן.

(24) לא.

(25) $\ell : \underline{x} = (-5, -2) + t(6, 8)$

(26) $\ell : \underline{x} = (4, 1, 1) + t(1, 1, 3)$

(27) $\ell : \underline{x} = (2, -7, 1) + s(-4, 2, 1)$

(28) $\ell : \underline{x} = (1, 2, 3) + t(2, 1, 0)$

(29) א. $x = 1 + 4t, y = 2 + 5t, z = 3 + 6t$ ב. $\ell : \underline{x} = (1, 10, 4) + t(2, 0, -1)$

(30) $\ell : \underline{x} = t(0, 1, 0)$

(31) $\ell : \underline{x} = (3, -1, 4) + t(0, 0, 1)$

(32) $(7, -5, 0)$

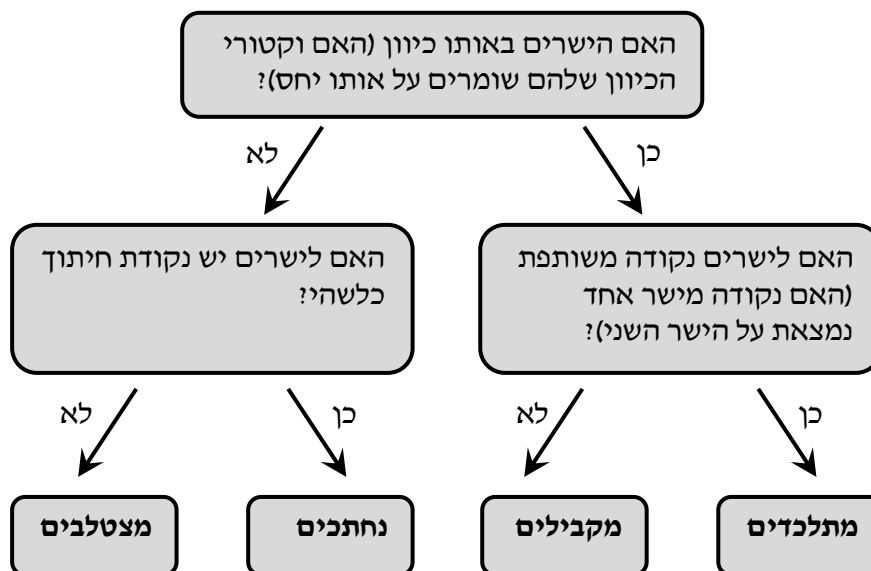
מצב הדדי בין ישרים:

סיכום כללי:

ישנם 4 מצבים הדדים בין זוג ישרים במרחב:

- ישרים מתלכדים: שני הישרים הם למעשה ישר אחד.
- ישרים מקבילים: שני הישרים בעלי אותו כיוון ולעולם אינם נפגשים במרחב.
- ישרים נחתכים: שני ישרים במרחב עם כיוונים שונים הנחתכים בנקודה כלשהי.
- ישרים מצטלבים: שני ישרים עם כיוונים שונים שאינם נפגשים במרחב.

כדי לקבוע את המצב ההדדי בין שני ישרים נבצע את הבדיקה הדו-שלבית הבאה:



שאלות:

(33) מצא את המצב ההדדי בין הישרים הבאים.
 אם הם נחתכים מצא גם את נקודת החיתוך ביניהם.
 $\ell_1 : \underline{x} = (2, -3, 0) + t(5, -1, 2)$, $\ell_2 : \underline{x} = (12, -5, 4) + s(-10, 2, -4)$

(34) מצא את המצב ההדדי בין הישרים הבאים.
 אם הם נחתכים מצא גם את נקודת החיתוך ביניהם.
 $\ell_3 : \underline{x} = (0, 1, -7) + t(-2, 1, 1)$, $\ell_4 : \underline{x} = (2, 0, -6) + s(6, -3, -3)$

(35) מצא את המצב ההדדי בין הישרים הבאים.
 אם הם נחתכים מצא גם את נקודת החיתוך ביניהם.
 $\ell_5 : \underline{x} = (-3, 5, 1) + t(4, 0, -1)$, $\ell_6 : \underline{x} = (-1, 7, 4) + s(-1, 1, 2)$

(36) מצא את המצב ההדדי בין הישרים הבאים.
 אם הם נחתכים מצא גם את נקודת החיתוך ביניהם.
 $\ell_7 : \underline{x} = (3, 0, 0) + t(2, -2, 5)$, $\ell_8 : \underline{x} = (0, 1, -5) + s(3, 1, -2)$

(37) מצא את המצב ההדדי בין הישרים הבאים.
 אם הם נחתכים מצא גם את נקודת החיתוך ביניהם.
 $\ell_9 : \underline{x} = (-4, 1, -1) + t(3, 0, -1)$, $\ell_{10} : \underline{x} = s(6, 0, -2)$

(38) מצא את המצב ההדדי בין הישרים הבאים.
 אם הם נחתכים מצא גם את נקודת החיתוך ביניהם.
 $\ell_{11} : \underline{x} = (2, 8, -1) + t(1, 0, 0)$, $\ell_{12} : \underline{x} = (-5, 8, 2) + s(2, 0, -1)$

(39) מצא את ערכו של הפרמטר k שבעבורו הישרים הבאים :
 $\ell_1 : \underline{x} = (k+1, 1-k, 6) + t(1, -2, 2)$, $\ell_2 : \underline{x} = (k-1, 7, -k) + s(1-k^2, k^2+2, -6)$

א. מקבילים.

ב. מתלכדים.

(40) נתונות הנקודות : $A(3, -1, 5)$, $B(k, -1, 3)$, $C(-6, 3, -1)$, $D(-2, 3, k)$
 הראה כי לכל ערך של k הישרים ℓ_{AB} ו- ℓ_{CD} מצטלבים.

תשובות סופיות:

33) מתלכדים.

34) מקבילים.

35) נחתכים, $(1, 5, 0)$.

36) מצטלבים.

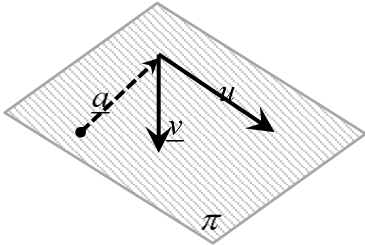
37) מקבילים.

38) נחתכים, $(1, 8, -1)$.39) א. $k = 2$. ב. $k = -2$.

40) הוכחה.

הצגה פרמטרית של מישור:

סיכום כללי:



מישור כלשהו במרחב ניתן להצגה ע"י שלושה ווקטורים. הווקטור \underline{a} הוא ווקטור ההעתקה.

מוצאו תמיד בראשית הצירים וסופו בנקודה כלשהי על המישור.

הווקטורים \underline{u} ו- \underline{v} הם וקטורי הכיוון של המישור. אלו הווקטורים הפורשים את המישור.

הקשר בין שלושת הווקטורים נתון ע"י: $\pi : \underline{x} = \underline{a} + t\underline{u} + s\underline{v}$

כאשר t, s הם מספרים ממשיים כלשהם ו- \underline{x} הוא ווקטור המתקבל ע"י בחירתם אשר מוצאו בראשית הצירים וסופו בנקודה על המישור π .

שאלות:

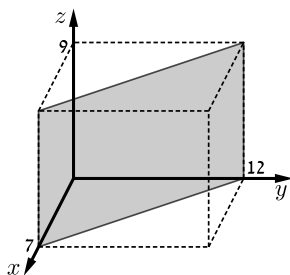
(41) מצא את הצגתו הפרמטרית של מישור שעובר בנקודות הבא:
 $A(1, -4, 0)$, $B(3, 6, 2)$, $C(0, -3, 1)$

(42) מצא את הצגתו הפרמטרית של מישור שעובר בנקודה $Q(6, 7, -1)$, ומכיל את הישר $\ell : \underline{x} = (-2, -2, 5) + t(1, 0, -4)$

(43) נתונים שני ישרים: $\ell_1 : \underline{x} = (0, 1, -1) + t(1, 9, -3)$, $\ell_2 : \underline{x} = (2, 16, 11) + s(0, 1, -6)$. הראה שהישרים נחתכים ומצא הצגה פרמטרית של המישור המכיל אותם.

(44) מצא את הצגתו הפרמטרית של מישור שעובר בנקודה $D(5, -2, -1)$ ומכיל את ציר ה- x .

(45) מצא את הצגתו הפרמטרית של המישור $[xz]$.



(46) נתונה תיבה שמידותיה נתונות במערכת הצירים שלפניך. מצא את הצגתו הפרמטרית של המישור המסומן.

תשובות סופיות:

$$\cdot \pi : \underline{x} = (1, -4, 0) + t(2, 10, 2) + s(-1, 1, 1) \quad \mathbf{(41)}$$

$$\cdot \pi : \underline{x} = (-2, -2, 5) + t(1, 0, -4) + s(8, 9, -6) \quad \mathbf{(42)}$$

$$\cdot \pi : \underline{x} = (0, 1, -1) + t(1, 9, -3) + s(0, 1, -6) \quad \mathbf{(43)}$$

$$\cdot \pi : \underline{x} = t(1, 0, 0) + s(5, -2, -1) \quad \mathbf{(44)}$$

$$\cdot \pi : \underline{x} = t(1, 0, 0) + s(0, 0, 1) \quad \mathbf{(45)}$$

$$\cdot \pi : \underline{x} = (7, 0, 0) + t(0, 0, 1) + s(-7, 12, 0) \quad \mathbf{(46)}$$

משוואת מישור:

סיכום כללי:

ניתן להציג מישור ע"י משוואה באופן הבא: $\pi: ax+by+cz+d=0$,
 כאשר: (x, y, z) היא נקודה על המישור והמקדמים a, b, c הם שיעורי ווקטור הנורמל
 של המישור המסומן: $\underline{h}=(a, b, c)$.

שאלות:

(47) קבע האם הנקודות הבאות נמצאות על המישור $\pi: 2x-y+3z-6=0$
 א. $D(5, 7, 1)$ ב. $E(2, -1, 1)$

(48) מצא את ערכו של k שבעבורו הנקודה $A(1, k, -1)$ נמצאת על
 המישור: $\pi: kx-2y+(1+k)z+7=0$.

(49) נתונה משוואת מישור: $\pi: 3x+2y-z-9=0$.
 מצא את נקודות החיתוך של המישור עם שלושת הצירים.

(50) נתונה משוואת מישור: $\pi: 4x+y-2z+8=0$.
 מצא הצגה פרמטרית של הישר שהמישור חותך מהמישור $[yz]$.

תשובות סופיות:

(47) א. על המישור. ב. לא על המישור.

(48) $k=3$.

(49) $(3, 0, 0)$, $(0, 4\frac{1}{2}, 0)$, $(0, 0, -9)$.

(50) $\ell: \underline{x}=(0, -8, 0)+t(0, 2, 1)$.

מעברים בין הצגה פרמטרית של מישור ומשוואת מישור:

שאלות:

51 נתונה משוואת מישור: $2x + 3z - 12 = 0$. כתוב הצגה פרמטרית של המישור.

52 נתונה הצגה פרמטרית של מישור: $\underline{x} = (2, -5, 0) + t(1, 0, 2) + s(0, -1, 3)$. מצא את משוואת המישור.

53 נתונה הצגה פרמטרית של מישור: $\underline{x} = t(-2, 2, 1) + s(3, 1, 0)$. מצא את משוואת המישור.

54 המישור π עובר בנקודות: $A(1, 0, -3)$, $B(2, 0, 0)$, $C(4, -1, 0)$. מצא את משוואת המישור.

55 ענה על הסעיפים הבאים:

א. לפניך הנקודות הבאות: $(2, 0, 5)$, $(0, 1, -2)$, $(1, 1, 0)$.

i. הראה ששלוש הנקודות אינן נמצאות על ישר אחד ומצא הצגה פרמטרית של המישור הנקבע על ידן.

ii. מצא את משוואת המישור העובר דרך שלוש הנקודות הנ"ל.

ב. מצא שתי נקודות נוספות הנמצאות על המישור שמצאת בסעיף א'.

ג. האם הנקודה $(4, 2, 1)$ נמצאת על המישור שמצאת בסעיף א'?

תשובות סופיות:

51 $\underline{x} = (0, 0, 4) + t(0, 1, 0) + s(6, 0, -4)$

52 $\pi: -2x + 3y + z + 19 = 0$

53 $\pi: x - 3y + 8z = 0$

54 $\pi: 3x + 6y - z - 6 = 0$

55 i. $\underline{x} = (1, 1, 0) + t(-1, 0, -2) + s(1, -1, 5)$ ii. $-2x + 3y + z - 1 = 0$

ב. למשל: $(-0.5, 0, 0)$, $(0, 0, 1)$. ג. לא.

מישורים המקבילים לצירים:

שאלות:

56 נתונה משוואת מישור: $(k+2)x + (k^2 - 2k - 3)y - 3z + k^2 - 1 = 0$.
 לאיזה ערך של k המישור מקביל לציר ה- y (ולא מכיל אותו)?

57 פאותיו של טטראדר נמצאות על המישורים $x=0$, $y=0$, $z=0$
 ו- $x+3y+2z-6=0$. מצא את נפח הטטראדר.

תשובות סופיות:

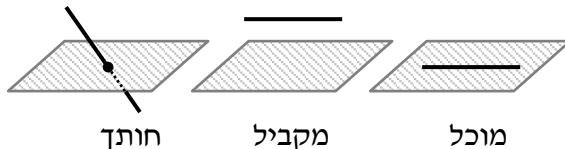
56 $k=3$.

57 6 יח"נ.

מצב ההדדי בין ישר ומישור:

סיכום כללי:

ישנם 3 מצבים הדדיים בין ישר ומישור במרחב:



- הישר חותך את המישור.
- הישר מקביל למישור.
- הישר מוכל במישור.

כדי לדעת מהו המצב ההדדי בין ישר ומישור יש להציב נקודה כללית של הישר במשוואת המישור ולבדוק:

- אם למשוואה המתקבלת יש פתרון יחיד אז הישר חותך את המישור.
- אם למשוואה אין אף פתרון אז הישר מקביל למישור.
- אם למשוואה יש אינסוף פתרונות אז הישר מוכל במישור.

שאלות:

(58) נתונים הישר והמישור הבאים: $\ell : \underline{x} = (5, 0, 1) + t(4, 1, -2)$, $\pi : 2x - y - 3z + 6 = 0$. קבע את המצב ההדדי שביניהם. אם הישר חותך את המישור מצא גם את נקודת החיתוך.

(59) נתונים הישר והמישור הבאים: $\ell : \underline{x} = (2, -1, 6) + t(-1, 1, 2)$, $\pi : x - 3y + 2z - 11 = 0$. קבע את המצב ההדדי שביניהם. אם הישר חותך את המישור מצא גם את נקודת החיתוך.

(60) נתונים הישר והמישור הבאים: $\ell : \underline{x} = (-6, 1, 0) + t(3, 0, -1)$, $\pi : 2x + y + 6z + 11 = 0$. קבע את המצב ההדדי שביניהם. אם הישר חותך את המישור מצא גם את נקודת החיתוך.

(61) נתונים הישר והמישור הבאים: $\ell : \underline{x} = (1, a, 3) + t(4, 1 - b, 0)$, $\pi : 2x - y + z - 4 = 0$. מצא את ערכי a ו- b בעבורם הישר מוכל במישור.

תשובות סופיות:

58) הישר חותך, $(1, -1, 3)$.

59) מקבילים.

60) הישר מוכל.

61) $a = 1, b = -7$.

מצב הדדי בין מישורים:

סיכום כללי:

בין שני מישורים ישנם 3 מצבים הדדיים:

- המישורים נחתכים - במקרה זה יש להם ישר משותף הנקרא ישר החיתוך.
- המישורים מקבילים – לשני המישורים וקטורים פורשים זהים אך ווקטור העתקה שונה.
- המישור מתלכדים - במקרה זה שני המישורים מייצגים את אותו המישור.

עבור שני מישורים כלליים: $\pi_1: a_1x + b_1y + c_1z + d_1 = 0$ ו- $\pi_2: a_2x + b_2y + c_2z + d_2 = 0$

נקבע את המצב ההדדי ביניהם באופן הבא:

נחתכים	מקבילים	מתלכדים
כל מצב אחר	$\frac{a_1}{a_2} = \frac{b_1}{b_2} = \frac{c_1}{c_2} \neq \frac{d_1}{d_2}$	$\frac{a_1}{a_2} = \frac{b_1}{b_2} = \frac{c_1}{c_2} = \frac{d_1}{d_2}$

שאלות:

62 נתונים שני מישורים. קבע את המצב ההדדי ביניהם:

א. $\pi_1: 2x - y + 4z - 5 = 0$, $\pi_2: 4x - 2y + 8z - 10 = 0$

ב. $\pi_3: x + 3y - z + 1 = 0$, $\pi_4: 3x + 9y - 3z - 8 = 0$

ג. $\pi_5: 5x - 2y - 2z + 3 = 0$, $\pi_6: 2x + 3y + z - 5 = 0$

63 נתונים שני המישורים הבאים:

$\pi_1: 2x + (k^2 + k)y - 2z + 1 = 0$, $\pi_2: 4x + 12y - 4z + k^2 - 2 = 0$

מצא את ערכי k עבורם המישורים:

א. נחתכים ב. מקבילים ג. מתלכדים.

תשובות סופיות:

62 א. מתלכדים. ב. מקבילים. ג. נחתכים.

63 א. $k \neq 2, -3$. ב. $k = -3$. ג. $k = 2$.

ישר חיתוך בין מישורים:

שאלות:

64 נתונים שני מישורים נחתכים: $\pi_1 : 4x + y - 2z + 2 = 0$, $\pi_2 : 2x - y + z + 10 = 0$. מצא הצגה פרמטרית של ישר החיתוך שבין המישורים.

65 נתונים שני מישורים נחתכים: $\pi_3 : 8x + 2y - 3z + 2 = 0$, $\pi_4 : 2x - 3y + z + 4 = 0$. מצא הצגה פרמטרית של ישר החיתוך שבין המישורים.

66 נתונים שני מישורים נחתכים: $\pi_5 : 3x - 3y + z + 2 = 0$, $\pi_6 : 5x - 2z + 20 = 0$. מצא הצגה פרמטרית של ישר החיתוך שבין המישורים.

67 נתונים שני מישורים נחתכים: $\pi_7 : x - 2y - z + 6 = 0$, $\pi_8 : z - 2 = 0$. מצא הצגה פרמטרית של ישר החיתוך שבין המישורים.

68 מצא הצגה פרמטרית של ישר החיתוך של המישור $\pi : 6x - 5y + z + 18 = 0$ עם המישור $[xz]$.

69 נתונים שני מישורים: $\pi_1 : x - 3y + 2z - 1 = 0$, $\pi_2 : 4x + y - z - 6 = 0$. מצא הצגה פרמטרית של ישר המקביל לשני המישורים ועובר בראשית.

תשובות סופיות:

$$64 \quad \ell : \underline{x} = (-2, 6, 0) + t(2, 16, 12)$$

$$65 \quad \ell : \underline{x} = (0, 2, 2) + t(1, 2, 4)$$

$$66 \quad \ell : \underline{x} = (0, 4, 10) + t\left(4, 7\frac{1}{3}, 10\right)$$

$$67 \quad \ell : \underline{x} = (0, 2, 2) + t(4, 2, 0)$$

$$68 \quad \ell : \underline{x} = (-3, 0, 0) + t(3, 0, -18)$$

$$69 \quad \ell : \underline{x} = t(1, 9, 13)$$

זווית בין שני ישרים:

סיכום כללי:

- זווית חדה α בין שני ישרים $l_1 = \underline{a}_1 + t\underline{u}_1$ ו- $l_2 = \underline{a}_2 + s\underline{u}_2$ תחושב: $\cos \alpha = \frac{|\underline{u}_1 \cdot \underline{u}_2|}{|\underline{u}_1| \cdot |\underline{u}_2|}$.

שאלות:

70 מצא את הזווית שבין זוגות הישרים הבאים:

א. $l_1 : \underline{x} = (4, 0, 0) + t(6, 8, 1)$, $l_2 : \underline{x} = s(-4, 2, -4)$.

ב. $l_1 : \underline{x} = (10, 17, -18) + t(3, 0, -6)$, $l_2 : \underline{x} = (6, 5, 4) + s(0, 4, 0)$.

71 מצא את הזווית שבין ישר העובר דרך הנקודות $A(3, 4, 6)$, $B(6, 0, -2)$ וישר העובר דרך הנקודות: $C(6, 5, 1)$, $D(-1, 4, 2)$ וקבע מה המצב ההדדי ביניהם.

72 נתונות הנקודות $A(1, -3, 0)$, $B(4, 2, -1)$, $C(3, -1, 2)$.

א. מצא הצגה פרמטרית של ישר במרחב העובר דרך הנקודות:

i. A ו- B .

ii. B ו- C .

iii. A ו- C .

ב. מי מבין הנקודות $D(4, 2, -1)$ ו- $E(7, 7, -3)$ נמצאת על הישר AB שמצאת בסעיף הקודם?

ג. חשב את הזווית שבין הישר AB והישר BC .

73 נתון מישור שמשוואתו: $3x - 4y + 6 = 0$. הנקודות $A(x, 6, 1)$, $B(-2, y, -1)$.

נמצאות על המישור והנקודה C נמצאת על מישור $[yz]$ ומקיימת: $z_C = 11$.

מצא את שיעורי הנקודה C אם ידוע כי קוסינוס הזווית שבין הישרים AB ו- AC

הוא: $\sqrt{\frac{13}{76}}$.

תשובות סופיות:

ב. 90° .(70) א. 78.521° (71) 68.21° . הישרים מצטלבים.א. ii. $\ell : \underline{x} = (4, 2, -1) + t(-1, -3, 3)$ (72) א. i. $\ell : \underline{x} = (1, -3, 0) + t(3, 5, -1)$ ב. הנקודה D. ג. 35.477° .א. iii. $\ell : \underline{x} = (1, -3, 0) + t(2, 2, 2)$

(73) C(0, 2, 11) או C(0, 28.45, 11)

זווית בין ישר ומישור:

סיכום כללי:

• זווית חדה α בין ישר $l = \underline{a} + t\underline{u}$ ומישור $\pi : ax + by + cz + d = 0$

$$\sin \alpha = \frac{|\underline{u} \cdot \underline{h}|}{|\underline{u}| \cdot |\underline{h}|}$$

תחושב ע"י הנוסחה הבאה:

שאלות:

(74) מצא את הזווית שבין הישר והמישור הבאים:

$$. \ell : \underline{x} = (-2, 0, 5) + t(-2, 1, 2), \quad \pi : 3x - 2y + 2z + 9 = 0$$

(75) נתונות הנקודות $A(1, -1, 2)$, $B(0, 2, -1)$, $C(1, 2, 5)$, $D(-7, 3, -1)$

מצא את הזווית בין הישר העובר בנקודות A ו-D ובין המישור ABC.

(76) נתונה פירמידה משולשת SABC, שמשוואת הבסיס ABC שלה

$$\text{היא: } 2x + y - 2z - 6 = 0. \text{ קדקוד הפירמידה הוא } S(3, 1, -2).$$

מצא את הזווית בין המקצוע הצדדי SB לבסיס הפירמידה,

$$\text{אם נתון כי שיעורי הקודקוד B מקיימים: } x_B = z_B = -1.$$

תשובות סופיות:

$$.18.87^\circ \quad (74)$$

$$.44.83^\circ \quad (75)$$

$$.14.9^\circ \quad (76)$$

זווית בין שני מישורים:

סיכום כללי:

• זווית חדה α בין שני מישורים: $\pi_1: a_1x + b_1y + c_1z + d_1 = 0$ ו- $\pi_2: a_2x + b_2y + c_2z + d_2 = 0$

• תחושב ע"י: $\cos \alpha = \frac{|h_1 \cdot h_2|}{|h_1| \cdot |h_2|}$

שאלות:

(77) מצא את הזווית שבין המישורים הבאים: $\pi_1: 4x + 3y + z - 12 = 0$
 ו- $\pi_2: 4x - 7y + 5z + 3 = 0$

(78) נתונה פירמידה משולשת ABCD, שקודקודה הם:
 $A(0, 2, -5)$, $B(3, -1, 1)$, $C(7, -1, -5)$, $D(3, 2, 0)$
 מצא את הזווית בין הפאה הצדדית ABD לבסיס הפירמידה ABC.

(79) מצא את הזווית בין מישור שמשוואתו $3x + 5y - z + 4 = 0$ למישור $[xz]$.

תשובות סופיות:

(77) 90°

(78) 87.539°

(79) 32.312°

מרחק בין שתי נקודות במרחב:

סיכום כללי:

מרחק בין שתי נקודות $A(x_1, y_1, z_1)$ ו- $B(x_2, y_2, z_2)$ במרחב יחושב באופן

$$\text{הבא: } d_{AB} = \sqrt{(x_2 - x_1)^2 + (y_2 - y_1)^2 + (z_2 - z_1)^2}$$

שאלות:

(80) נתונות הנקודות: $A(2, 4, -5)$, $B(0, -2, 6)$ ו- $C(k, -1, 13 - k)$. מצא ערכי k עבורם המשולש ABC יהיה שווה-שוקיים: $AB = AC$.

תשובות סופיות:

(80) $k = 8$ או $k = 12$.

מרחק בין נקודה לישר:

סיכום כללי:

מרחק בין נקודה $A(x_1, y_1, z_1)$ לישר הנתון בהצגה פרמטרית: $l: \underline{x} = \underline{a} + t\underline{u}$ יחושב ע"י העברת אנך מהנקודה לישר וחישוב אורכו. כדי למצוא את נקודת החיתוך יש להשוות את מכפלת הווקטור האנך בווקטור הכיוון של הישר לאפס.

שאלות:

81 מצא את המרחק שבין הנקודה $A(13, -1, -19)$ לישר $l: \underline{x} = t(2, 0, -7)$.

82 נתונות הנקודות $A(1, 6, -1)$, $B(2, -1, 0)$, $C(6, -4, 0)$.
חשב את שטח המשולש ABC.

83 על הישר $l: \underline{x} = (5, -2, 0) + t(0, 1, -1)$ מונחת הצלע AB של ריבוע ABCD.
אחד מקודקודי הריבוע הוא $D(5, 4, 2)$.
מצא את שיעורי הקודקוד B (שתי אפשרויות).

תשובות סופיות:

81 $\sqrt{54}$

82 12.75 יח"ש.

83 $B(5, 4, -6)$ או $B(5, -4, 2)$.

מרחק בין נקודה למישור:

סיכום כללי:

מרחק בין נקודה $A(x_1, y_1, z_1)$ למישור $\pi: ax + by + cz + d = 0$ יחושב

$$.d = \left| \frac{ax_1 + by_1 + cz_1 + d}{\sqrt{a^2 + b^2 + c^2}} \right| \text{ עיני:}$$

שאלות:

(84) מצא את מרחקו של המישור $4x - 2y - 4z + 15 = 0$ מראשית הצירים.

(85) מצא משוואת מישור המאונך לישר $\ell: \underline{x} = (1, -8, 3) + t(3, -2, 1)$

ונמצא במרחק $\sqrt{14}$ מהנקודה $A(4, 5, -9)$.

(86) נתונים ישר ומישור: $\pi: 2x + 4y - 4z + 15 = 0$, $\ell: \underline{x} = (7, 19, -3) + t(3, 14, -4)$.

מצא את הנקודות שעל הישר שמרחקן מהמישור הוא 6.5.

תשובות סופיות:

$$.2 \frac{1}{2} \quad (84)$$

$$. \pi: 3x - 2y + z - 7 = 0 \text{ או } \pi: 3x - 2y + z + 21 = 0 \quad (85)$$

$$.(1, -9, 5) \text{ או } (4, 5, 1) \quad (86)$$

מרחק בין ישרים מקבילים:

סיכום כללי:

מרחק בין שני ישרים מקבילים יחושב ע"י שימוש בנקודה מאחד הישרים ומציאת מרחקה מהישר השני ע"י העברת אנך מהנקודה לישר וחישוב אורכו.

שאלות:

87 נתונות הנקודות $A(15,0,-4)$, $B(12,-5,2)$, $C(6,1,4)$, $D(12,11,-8)$

א. מצא את המצב ההדדי בין הישר העובר בנקודות A ו-B

ובין הישר העובר בנקודות C ו-D.

ב. מצא את המרחק בין הישרים מסעיף א'.

88 4 צלעות של מרובע מונחות על הישרים:

$$l_1: \underline{x} = (2, 0, -1) + t(1, -2, 1) \quad , \quad l_2: \underline{x} = (-8, -1, 19) + s(-4, 1, 6)$$

$$l_3: \underline{x} = (-2, 7, -11) + r(-2, 4, -2) \quad , \quad l_4: \underline{x} = (-2, 1, 5) + q(4, -1, -6)$$

א. הוכח כי המרובע הוא מלבן.

ב. מצא את שטח המלבן.

תשובות סופיות:

87 א. מקבילים. ב. $\sqrt{76}$ יח"א.

88 א. הוכחה. ב. $\sqrt{824}$ יח"ש.

מרחק בין ישר למישור:

סיכום כללי:

מרחק בין ישר ומישור (המקביל לו) יחושב ע"י שימוש בנקודה שעל הישר ומציאת מרחקה מהמישור.

שאלות:

89 נתונה משוואת מישור: $4x - z + 6 = 0$.

א. מצא את המצב ההדדי בין ציר ה- y ובין המישור הנתון.

ב. מצא את המרחק בין ציר ה- y ובין המישור הנתון.

90 נתונים ישר ומישור: $\pi: 3x + 12y - 4z + k - 10 = 0$, $l: \underline{x} = (1, k - 1, 5) + t(4, -2, -3)$.

א. הוכח שהישר מקביל למישור או מוכל בו.

ב. מצא את ערכו של הפרמטר k שעבורו המרחק בין הישר למישור הוא 1.

תשובות סופיות:

89 א. הישר מקביל למישור. ב. $\frac{6}{\sqrt{17}}$.

90 א. הוכחה. ב. $k = 2, 4$.

מרחק בין מישורים מקבילים:

סיכום כללי:

מרחק בין שני מישורים מקבילים יחושב לפי אחת מהאפשרויות הבאות:
 1. שימוש בנקודה שעל מישור אחד ומציאת מרחקה מהמישור השני.

$$2. \text{ שימוש בנוסחה: } d = \left| \frac{d_1 - d_2}{\sqrt{a^2 + b^2 + c^2}} \right|$$

שאלות:

91 נתונה משוואת מישור: $\pi : 3x - 4y + 5z - 10 = 0$.

מצא משוואת מישור המקביל למישור הנתון והנמצא במרחק $\sqrt{8}$ ממנו.

92 נתונים שני מישורים מקבילים: $\pi_1 : x - 2y - 2z + 6 = 0$, $\pi_2 : x - 2y - 2z - 12 = 0$.

מצא את משוואת המישור המקביל לשני המישורים הנתונים והנמצא במרחק שווה משניהם.

93 נתונים שישה מישורים:

$$\pi_1 : 2x + y - 2z - 11 = 0, \quad \pi_2 : x + 2y + 2z + 5 = 0, \quad \pi_3 : 2x - 2y + z + 3 = 0$$

$$\pi_4 : 2x + y - 2z + 7 = 0, \quad \pi_5 : x + 2y + 2z - 1 = 0, \quad \pi_6 : kx + qy + z + p = 0$$

מצא את ערכי הפרמטרים k, q, p שעבורם ששת המישורים יוצרים תיבה שנפחה 60 יחידות נפח.

94 כדור שמרכזו בנקודה $O(3, 8, -1)$ חסום בקובייה שבסיסה התחתון

$$\text{מונח על מישור שמשוואתו } 12x + 4y - 3z - 6 = 0$$

מצא את משוואת המישור עליו מונח הבסיס העליון של הקובייה.

תשובות סופיות:

$$91 \quad \pi_1 : 3x - 4y + 5z + 10 = 0, \quad \pi_2 : 3x - 4y + 5z - 30 = 0$$

$$92 \quad \pi_3 : x - 2y - 2z - 3 = 0$$

$$93 \quad k = 2, \quad q = -2, \quad p = 18, -12$$

$$94 \quad 12x + 4y - 3z - 136 = 0$$

מרחק בין ישרים מצטלבים:

סיכום כללי:

מרחק בין ישרים מצטלבים יחושב ע"י כתיבת משוואת מישור של אחד הישרים ומציאת מרחקו מהישר השני.

שאלות:

95 נתונים שני הישרים הבאים: $\ell_1 : \underline{x} = (-3, 2, 6) + t(-4, 1, 2)$

$$\text{ו-} \ell_2 : \underline{x} = (0, 2, -7) + s(1, 0, -1)$$

הראה שהישרים מצטלבים ומצא את המרחק שביניהם.

96 נתונים שני הישרים המצטלבים הבאים: $\ell_1 : \underline{x} = (-1, 0, 5) + t(1, 1, -2)$

$$\text{ו-} \ell_4 : \underline{x} = (2, -1, 9) + s(6, -1, 0)$$

מצא את המרחק שביניהם.

97 מצא את מרחק הישר $\ell : \underline{x} = (4, -2, -1) + t(-1, 1, 6)$ מציר ה- z .

תשובות סופיות:

95 $\frac{10}{\sqrt{6}}$ יח"א.

96 1.567 יח"א.

97 $\sqrt{2}$ יח"א.

שאלות מסכמות בוקטורים:

שאלות:

- 1** נתונות הנקודות $A(1,1,3)$, $B(1,2,0)$, $C(1,1,1)$.
- מצא הצגה פרמטרית של הישר המחבר את B עם C. הראה כי הנקודה A לא נמצאת על הישר הזה.
 - חשב את המרחק בין הנקודה A לבין הישר המחבר את B עם C.
 - מצא את משוואת המישור העובר דרך הנקודה A והמאונך לישר המחבר את B עם C.
- 2** מצא את מצבם ההדדי של זוגות הישרים הבאים וקבע אם הם נחתכים, מקבילים, מתלכדים או מצטלבים.
- במקרה בו הישרים נחתכים מצא גם את נקודות החיתוך ואת הזווית בין הישרים. במקרה בו הישרים מקבילים או מצטלבים מצא גם את המרחק ביניהם.
- $\underline{x} = (1,0,1) + t(1,2,0)$, $\underline{x} = (1,1,0) + s(2,4,0)$
 - $\underline{x} = (-2,2,4) + u(6,6,1)$, $\underline{x} = (1,-1,0) + s(12,-3,1)$
 - $\underline{x} = (1,1,2) + t(1,2,-1)$, $\underline{x} = (2,3,1) + s(2,4,-2)$
 - $\underline{x} = (1,-1,0) + t(0,2,-4)$, $\underline{x} = (2,0,3) + s(-1,-3,1)$
- 3** מצא את המצב ההדדי של המישור והישר וקבע אם הישר חותך את המישור, מקביל למישור או מוכל במישור.
- במקרה שהישר חותך את המישור, מצא גם את נקודת החיתוך וגם את הזווית בין הישר למישור. במקרה בו הישר מקביל למישור מצא את מרחק הישר מהמישור.
- $2x - 3y + 4z - 5 = 0$, $\underline{x} = (1,0,2) + t(-1,2,2)$
 - $2x - 5y + 3z - 6 = 0$, $\underline{x} = (-3,0,4) + t(4,-2,-6)$
 - $2x - 14y + 10z = -6$, $\underline{x} = (2,1,-2) + t(-2,2,0)$
- 4** מצא את המצב ההדדי של המישורים וקבע אם הם מקבילים, מתלכדים או נחתכים. במקרה בו המישורים מקבילים מצא את המרחק ביניהם. במקרה בו הם נחתכים מצא את הזווית ביניהם ואת ישר החיתוך ביניהם.
- $x - 2y + 2z - 10 = 0$, $2x + y + 2z - 4 = 0$
 - $2x - 5y + 3z - 6 = 0$, $4x - 10y + 6z - 8 = 0$
 - $2x - 14y + 10z = -6$, $x - 7y + 5z = -3$

- (5) נתונה קובייה ABCDA'B'C'D' שנפחה הוא 8.
 משוואת המישור שעליו מונח הבסיס ABCD היא: $\pi_1 : 4x + y + 3z - 28 = 0$.
 משוואת המישור שעליו מונחת הפאה ABB'A' היא: $\pi_2 : x + 2y - 2z + 6 = 0$.
 מצא הצגה פרמטרית של הישר שעליו מונח המקצוע CD (2 אפשרויות).
- (6) הנקודה A(4,0,-1) נמצאת על כדור שמרכזו O(1,1,2).
 מצא את משוואת המישור המשיק לכדור בנקודה A.
- (7) נתונים מישור וישר: $\pi : 2x - y + 2z + 1 = 0$, $\ell : \underline{x} = (1,5,5) + t(1,1,0)$.
 מצא נקודה על חלקו החיובי של ציר ה-z הנמצאת במרחקים שווים מהמישור ומהישר.
- (8) נתונים שני מישורים: $\pi_1 : 2x - 4y + 4z - 5 = 0$, $\pi_2 : 4x - 2y + 4z - 1 = 0$.
 מצא הצגה פרמטרית של ישר, שנמצא במרחק 2 ממישור π_1 ובמרחק 6 ממישור π_2 (מצא הצגה של ישר אחד מתוך 4 אפשריים).
- (9) נתונים ישר ומישור: $\pi : 6x + 2y - z + 5 = 0$, $\ell_1 : \underline{x} = (0,-3,0) + t(1,1,-8)$.
 ישר נוסף, ℓ_2 , המקביל למישור π , עובר בנקודה P(1,0,-4) וחותך את הישר ℓ_1 בנקודה Q. מבין הנקודות שבמישור π , הנקודה P' היא הקרובה ביותר לנקודה P והנקודה Q' היא הקרובה ביותר לנקודה Q. מצא את שטח המלבן P'Q'QP. (הדרכה: הבע באמצעות t את וקטור הכיוון של ℓ_2).
- (10) נתונים שני מישורים: $\pi_1 : 2x + y + z - 5 = 0$, $\pi_2 : 3x + y + 2z + 11 = 0$.
 ℓ_1 הוא ישר החיתוך בין שני המישורים.
 המישור π_3 מכיל את הישר ℓ_1 ויוצר זווית של 60° עם הישר $\ell_2 : \underline{x} = (1,3,-4) + t(1,1,0)$.
 מצא את משוואת המישור π_3 .

תשובות סופיות:

- (1) א. $\underline{x} = (1, 2, 0) + t(0, -1, 1)$ ב. $\sqrt{2}$ ג. $y - z + 2 = 0$
- (2) א. מקבילים, 1.095 ב. מצטלבים, 4.07 ג. מתלכדים
 ד. נחתכים בנקודה $(1, -3, 4)$, הזווית היא: 47.6°
- (3) א. מקביל, 0.9284 ב. מוכל
 ג. חותך בנקודה $(3.5, -0.5, -2)$, הזווית היא: 40.78°
- (4) א. נחתכים. ישר חיתוך: $\underline{x} = (0, -2, 3) + t(3, -1, -2.5)$, זווית: 63.6° .
 ב. מקבילים. המרחק: 0.324 ג. מתלכדים.
- (5) $\ell: \underline{x} = (0, 2.5, 8.5) + t(2, -2.75, -1.75)$, $\ell: \underline{x} = (0, 7, 7) + t(8, -11, -7)$
- (6) $\pi: -3x + y + 3z + 15 = 0$
- (7) $(0, 0, 4)$ או $(0, 0, 14\frac{4}{5})$
- (8) $\ell: \underline{x} = \left(0, -14, -15\frac{3}{4}\right) + t(-14, 14, 21)$
- (9) 10.467 יח"ש.
- (10) $\pi_3: x + 2y - z - 58 = 0$ או $\pi_3: 2x + y + z - 5 = 0$

שאלות הנפתרות עם מכפלה וקטורית:

שאלות:

מציאת משוואת מישור:

(1) נתונה הצגה פרמטרית של מישור: $\pi : \underline{x} = t(-2, 2, 1) + s(3, 1, 0)$
מצא את משוואת המישור.

(2) המישור π עובר בנקודות: $A(1, 0, -3)$, $B(2, 0, 0)$, $C(4, -1, 0)$
מצא את משוואת המישור.

(3) נתונים שני ישרים: $\ell_1 : \underline{x} = (5, -4, 1) + t(0, 2, -1)$, $\ell_2 : \underline{x} = (0, -6, 2) + s(0, -2, 1)$
הראה שהישרים מקבילים ומצא את משוואת המישור המכיל אותם.

(4) נתונים שני ישרים: $\ell_1 : \underline{x} = (-1, 1, 3) + t(3, -2, 4)$, $\ell_2 : \underline{x} = (-7, 1, 0) + s(4, -3, 0)$
הראה שהישרים מצטלבים ומצא את משוואת המישור המכיל את הישר ℓ_1
ומקביל לישר ℓ_2 .

(5) מצא משוואת מישור שעובר בנקודה $A(6, 0, -1)$ ומכיל את ציר ה- z .

מצב הדדי בין ישר ומישור:

(6) נתונים הישר והמישור הבאים:
 $\pi : \underline{x} = (-1, 0, 2) + s(1, 0, -2) + r(3, 0, -1)$, $\ell : \underline{x} = (0, 3, -2) + t(1, -1, 2)$
קבע את המצב ההדדי שביניהם.
אם הישר חותך את המישור מצא גם את נקודת החיתוך.

(7) נתונים שני המישורים הבאים: $\pi_1 : x - 3y + 2z - 1 = 0$, $\pi_2 : 4x + y - z - 6 = 0$
מצא הצגה פרמטרית של ישר המקביל לשני המישורים ועובר בראשית.

מצב הדדי בין מישורים:

(8) במקבילון ABCDA'B'C'D' נתונים שלוש הקודקודים הבאים:

$$A(1, -1, 4), B(9, 0, 2), C(5, 2, -2)$$

מצא את משוואת המישור עליו מונחת הפאה A'B'C'D' אם ידוע שהנקודה $(2, -1, 0)$ נמצאת עליו.

מציאת ישר חיתוך בין שני מישורים:

(9) המישורים π_1 ו- π_2 מאונכים זה לזה.

הישר $\ell: \underline{x} = (4, 1, -1) + t(2, -1, 1)$ הוא ישר החיתוך שבין המישורים.

מצא את משוואות המישורים אם ידוע שהמישור π_1 עובר בראשית.

(10) נתונים ישר ומישור: $\pi: 4x - 2y - 3z - 6 = 0$, $\ell: \underline{x} = (-2, 0, 5) + t(3, 1, -1)$.

מצא הצגה פרמטרית של הישר שהוא היטלו של הישר ℓ על המישור.

חישובי מרחקים שונים:

(11) חשב את נפחה של פירמידה משולשת SABC שקודקודה הם:

$$A(1, 6, -1), B(2, -1, 0), C(6, -4, 0), S(11, -2, 4)$$

(12) בפירמידה משולשת SABC המקצועות SA, SB ו-SC מאונכים זה לזה.

$$SA = 6, SB = 8, SC = 12.$$

חשב את אורכו של גובה הפירמידה היורד מהקודקוד S לבסיס ABC.

(13) נתונים שני הישרים הבאים: $\ell_1: \underline{x} = (-3, 2, 6) + t(-4, 1, 2)$

$$\text{ו-} \ell_2: \underline{x} = (0, 2, -7) + s(1, 0, -1)$$

הראה שהישרים מצטלבים ומצא את המרחק שביניהם.

(14) נתונים שני הישרים המצטלבים הבאים: $\ell_1: \underline{x} = (-1, 0, 5) + t(1, 1, -2)$

$$\text{ו-} \ell_4: \underline{x} = (2, -1, 9) + s(6, -1, 0)$$

מצא את המרחק שביניהם.

(15) מצא את מרחק הישר $\ell: \underline{x} = (4, -2, -1) + t(-1, 1, 6)$ מציר ה- z .

שאלות שונות:

16 נתונים שני ישרים: $\ell_1 : \underline{x} = (-2, 1, 5) + t(5, -4, 2)$, $\ell_2 : \underline{x} = (-7, 3, -1) + s(-5, 4, -2)$.

א. מצא את המצב ההדדי שבין הישרים.

ב. המישור π_1 מכיל את שני הישרים והמישור π_2 נמצא בין שני הישרים

במרחק שווה מכל אחד מהם, מקביל לשני הישרים ומאונך למישור π_1 .

מצא את משוואות המישורים π_1 ו- π_2 .

17 נתונים שני מישורים: $\pi_1 : 2x - y + 4z - 8 = 0$, $\pi_2 : x - y + 2z - 4 = 0$.

המישור π_3 מכיל את ישר החיתוך של שני המישורים וחותך את ציר ה- y

בנקודה A כך שמתקיים $OA = m$ (O ראשית הצירים).

הזווית שבין המישור π_2 למישור π_3 היא α ונתון כי: $\cos \alpha = \frac{2}{3}$.

מצא את הערכים האפשריים של הפרמטר m .

18 נתונות שלוש נקודות: $A(3, -1, 1)$, $B(2, -1, 0)$, $O(3, 1, 0)$.

הנקודות A ו-B נמצאות על היקפו של מעגל שהנקודה O היא מרכזו.

מצא הצגה פרמטרית של הישר המשיק למעגל בנקודה A

(הישר נמצא במישור המעגל).

תשובות סופיות:

(1) $\pi: x - 3y + 8z = 0$

(2) $\pi: 3x + 6y - z - 6 = 0$

(3) $\pi: y + 2z + 2 = 0$

(4) $\pi: 12x + 16y - z - 1 = 0$

(5) $\pi: y = 0$

(6) נחתכים בנקודה: $(3, 0, 4)$

(7) $l: \underline{x} = t(1, 9, 13)$

(8) $\pi_{ABCD}: 2y + z + 2 = 0$

(9) $\pi_1: y + z = 0$, $\pi_2: x + y - z - 6 = 0$

(10) $l: \underline{x} = (-5, -13, 0) + t(7, 11, 2)$

(11) יח"נ 20.5

(12) יח"א 4.46

(13) יח"א $\frac{4}{\sqrt{6}}$

(14) יח"א 1.567

(15) יח"א $\sqrt{2}$

(16) א. הישרים מקבילים. ב. $\pi_2: y + 2z - 6 = 0$, $\pi_1: 2x + 2y - z + 7 = 0$

(17) $m = -\frac{4}{7}$ או $m = 4$

(18) $l: \underline{x} = (3, -1, 1) + k(-5, -2, -4)$

מכינה במתמטיקה להנדסת מכונות

פרק 30 - חשבון דיפרנציאלי - פונקציה ממשית

תוכן העניינים

1. מושג הפונקציה (ללא ספר)
2. הפונקציה הלינארית (ללא ספר)
3. הפונקציה הריבועית (ללא ספר)
4. הפונקציה המעריכית והלוגריתמית (ללא ספר)
5. הזזות ושיקופים של פונקציות (ללא ספר)
6. פתרון תרגילי הפרק 520
7. תרגול נוסף בתחום הגדרה (ללא ספר)
8. קבוצות ופונקציות - מבט לעומק (ללא ספר)

הפונקציה הממשית

שאלות:

1 מצא את תחום ההגדרה של הפונקציות הבאות:

א. $y = x^3 - x^2 - 4x + 1$ ב. $y = \frac{1}{x^2 - 4}$

ג. $y = \frac{4x+1}{x^2+1}$ ד. $y = \frac{1}{x^3-x}$

ה. $y = \frac{x^2}{x^2-x-2}$ ו. $y = \sqrt{x-4}$

ז. $y = \sqrt{x^2+x-2}$ ח. $y = \sqrt[3]{x^2+x-1}$

ט. $y = \frac{1}{\sqrt{1-|x|}}$ י. $y = \ln(x^2+x-2)$

יא. $y = \log x + \frac{1}{\log x}$ יב. $y = e^{x^2+x+1}$

יג. $y = \log_x(x+4)$ יד. $y = \tan(10x)$

טו. $y = \cot(4x)$ טז. $y = \arctan(x+4)$

יז. $y = \arcsin(x-4)$ יח. $y = \arccos(x+1)$

2 נתונות הפונקציות הבאות: $f(x) = x-4$, $g(x) = x^2$, $h(x) = \frac{4}{x}$

חשב את הפונקציות המרוכבות הבאות:

א. $f(g(1))$ ב. $h(g(f(5)))$ ג. $f(g(x))$

ד. $h(f(x))$ ה. $h(f(x))$ ו. $h(h(x))$

3 נתון: $f(x) = \frac{x-2}{x-1}$. חשב $f(f(x))$ עבור $x=3$.

(4) נתון: $f(x) = \frac{x-3}{x+2}$ $g(x) = \frac{5-x}{x-7}$. חשב $f(g(x)) + g(f(x))$ עבור $x=8$.

(5) נתון: $f(x) = x^2 - 7x$ $g(x) = \ln x$. חשב $f(g(x))$ עבור $x=e^2$.

(6) נתון: $f(x) = e^{2x}$ $g(x) = \ln x$. חשב $f(g(x))$ עבור $x=2$.

(7) נתון: $f(x) = \begin{cases} \frac{1}{x} & x > 0 \\ x^2 & x \leq 0 \end{cases}$, $g(x) = \begin{cases} x+3 & x > 4 \\ 3x & x \leq 4 \end{cases}$. חשב $f(g(x))$, $g(f(x))$.

(8) בתרגילים הבאים הוכח שהפונקציה הנתונה היא חח"ע בתחום הגדרתה ומצא את הפונקציה ההפוכה לה. בנוסף, מצא את התמונה של הפונקציה.

א. $f(x) = \frac{x-1}{3}$ ב. $f(x) = \frac{x+1}{x}$

ג. $f(x) = \frac{3x-2}{x-2}$ ד. $f(x) = x^2 - 4, x \geq 0$

(9) בתרגילים הבאים, בדוק האם הפונקציה היא חח"ע. בנוסף, מצא את התמונה של הפונקציה:

א. $f(x) = x + \frac{1}{x}$ ב. $f(x) = x^2 - x$ ג. $f(x) = \sqrt{1-x^2}$

(10) בתרגילים הבאים, בדוק האם הפונקציה היא חח"ע, אם כן, מצא את הפונקציה ההפוכה ואת התמונה של הפונקציה.

א. $f(x) = \frac{1}{\sqrt{1-x}}$ ב. $y = \frac{x^2+3}{2x-1}$ ג. $f(x) = \left(\frac{2x-1}{2x+1}\right)^3$

(11) נתונה $f(x) = \frac{x+2}{\sqrt{x-1}}$. האם הפונקציה היא חח"ע?

מצא את התמונה של הפונקציה.

12 מצא איזה מבין הפונקציות הבאות הן אי זוגיות ואיזה זוגיות:

א. $y = 4x^3$	ב. $y = x^4 + x^{10}$	ג. $y = 1$
ד. $y = \frac{1}{x}$	ה. $y = x^2 + \sin^2 x$	ו. $y = 2^x$
ז. $y = \ln x + x^2$	ח. $y = \sin x \cdot \cos x$	

13 מצא את המחזור של כל אחת מן הפונקציות הבאות:

א. $y = 2 \sin x$	ב. $y = 5 + 3 \sin(4x + 1)$
ג. $y = \tan \frac{x}{3}$	ד. $y = \sin^2 x$

14 רשום כל אחת מהפונקציות הבאות כפונקציה מפוצלת¹ ושרטט את גרף הפונקציה:

א. $y = x - 2 $	ב. $y = 3 x + 1 $
ג. $y = x^2 + 2 x - 1 $	ד. $y = \frac{ x }{x}$

תשובות סופיות:

1 א. כל x	ב. $x \neq \pm 2$	ג. כל x	ד. $x \neq 0, 1, -1$
ה. $x \neq 2, -1$	ו. $x \geq 4$	ז. $x \leq -2, x \geq 1$	ח. כל x
ט. $-1 < x < 1$	י. $x < -2, x > 1$	יא. $x > 0, x \neq 1$	יב. כל x
יג. $x > 0, x \neq 1$	יד. $x \neq \frac{\pi}{20} + \frac{\pi k}{10}$	טו. $x \neq \frac{\pi k}{4}$	טז. כל x
יז. $3 < x < 5$	יח. $-2 < x < 0$		

¹ נקראת גם: פונקציה "מפוצלת", "מוטלת", פונקציית "תפר" או פונקציה "לפי מקרים".

מכינה במתמטיקה להנדסת מכונות

פרק 31 - חשבון דיפרנציאלי - נגזרות ומשיקים

תוכן העניינים

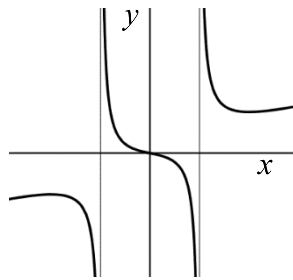
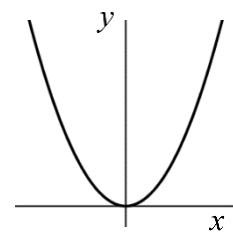
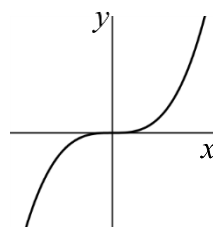
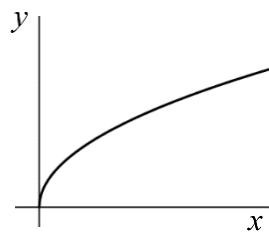
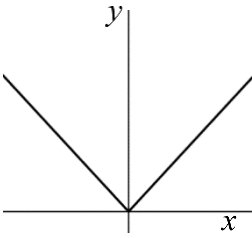
524	1. הקדמה כללית
525	2. גזירת פונקציות
531	3. מציאת שיפוע המשיק לגרף הפונקציה
532	4. מציאת משוואת המשיק לגרף הפונקציה
535	5. שאלות עם פרמטרים
537	6. שאלות העוסקות במציאת משוואת משיק מנקודה חיצונית

הקדמה כללית:

סיכום כללי:

פונקציות נפוצות:

הפונקציה $f(x) = x^2$: הפונקציה $f(x) = x^3$: הפונקציה $f(x) = \sqrt{x}$: הפונקציה $f(x) = |x|$:



פונקציה עם מכנה, למשל: $f(x) = \frac{5x^3 + 4x}{x^2 - 1}$:

שיפוע של פונקציה:

- השיפוע m של פונקציה $f(x)$ בנקודה $A(x_1, y_1)$ שעל הפונקציה הוא ערך הנגזרת בנקודה $A(x_1, y_1)$, כלומר: $m = f'(x_1)$.
- השיפוע של המשיק לפונקציה $f(x)$ בנקודה $A(x_1, y_1)$ שעל הפונקציה שווה לשיפוע הפונקציה בנקודה $A(x_1, y_1)$.
- משוואת המשיק לפונקציה $f(x)$ בנקודה $A(x_1, y_1)$ שעליה מתקבלת על ידי הנוסחה למציאת ישר: $y - y_1 = m(x - x_1)$.

הנגזרת:

לכל פונקציה $f(x)$ קיימת פונקציה, הנקראת פונקציית הנגזרת (או רק "הנגזרת") ומסומנת $f'(x)$, המתקבלת ממנה על פי כללי הגזירה.

גזירת פונקציות:

סיכום כללי:

כללי הגזירה:

- כלל גזירה מס' 1: $f(x) = x^n \Rightarrow f'(x) = n \cdot x^{n-1}$
- כלל גזירה מס' 2 (כפל בקבוע): $f(x) = ax^n \Rightarrow f'(x) = n \cdot ax^{n-1}$
- כלל גזירה מס' 3 (נגזרת של קבוע): $f(x) = a \Rightarrow f'(x) = 0$
- כלל גזירה מס' 4 (סכום והפרש): $f(x) = u \pm v \Rightarrow f'(x) = u' \pm v'$
- כלל גזירה מס' 5 (פונקציה מורכבת): $f(x) = u^n \Rightarrow f'(x) = n \cdot u^{n-1} \cdot u'$
- כלל גזירה מס' 6 (נגזרת של $\frac{1}{x}$): $f(x) = \frac{1}{x} \Rightarrow f'(x) = -\frac{1}{x^2}$
- כלל גזירה מס' 7 (מכפלה): $f(x) = u \cdot v \Rightarrow f'(x) = u'v + v'u$
- כלל גזירה מס' 8 (מנה): $f(x) = \frac{u}{v} \Rightarrow f'(x) = \frac{u'v - uv'}{v^2}$
- כלל גזירה מס' 9 (שורש): $f(x) = \sqrt{x} \Rightarrow f'(x) = \frac{1}{2\sqrt{x}}$

שאלות:

(1) גזור את הפונקציות הבאות:

- | | | |
|-----------------------------|-----------------------------|-----------------------------|
| א. $f(x) = x^3$ | ב. $f(x) = x^7$ | ג. $f(x) = x^2$ |
| ד. $f(x) = x$ | ה. $f(x) = x^{-3}$ | ו. $f(x) = x^{-1}$ |
| ז. $f(x) = x^{\frac{1}{2}}$ | ח. $f(x) = x^{\frac{1}{3}}$ | ט. $f(x) = x^{\frac{3}{4}}$ |

(2) גזור את הפונקציות הבאות:

- | | | |
|---------------------------|------------------------------|---------------------------------------|
| א. $f(x) = 2x^3$ | ב. $f(x) = 3x^7$ | ג. $f(x) = \frac{1}{2}x^4$ |
| ד. $f(x) = \frac{x^6}{7}$ | ה. $f(x) = 8x$ | ו. $f(x) = 3x^{-2}$ |
| ז. $f(x) = \frac{4}{x}$ | ח. $f(x) = 6x^{\frac{1}{2}}$ | ט. $f(x) = \frac{x^{\frac{2}{3}}}{3}$ |

(3) גזור את הפונקציות הבאות:

$$f(x) = 12 \quad \text{א.} \quad f(x) = \frac{7}{8} \quad \text{ב.}$$

(4) גזור את הפונקציות הבאות:

$$f(x) = x^3 + 2x^2 - 3x + 5 \quad \text{א.} \quad f(x) = \frac{1}{4}x^4 - \frac{x^3}{6} + \frac{3x}{4} - \frac{2}{5} \quad \text{ב.}$$

$$f(x) = 7x^2 + 23x - 6 \quad \text{ג.} \quad f(x) = 6x^2 + 8x + 4 \quad \text{ד.}$$

$$f(x) = \frac{1}{2}x^2 - x^3 \quad \text{ה.} \quad f(x) = \frac{x^4}{8} + 67 \quad \text{ו.}$$

(5) גזור את הפונקציות הבאות:

$$f(x) = (5x - 2)^3 \quad \text{א.} \quad f(x) = (x^3 + 6)^5 \quad \text{ב.} \quad f(x) = 3(x - x^2)^2 \quad \text{ג.}$$

$$f(x) = \frac{(5-x)^3}{4} \quad \text{ד.} \quad f(x) = \frac{2(x+1)^4}{3} \quad \text{ה.}$$

(6) גזור את הפונקציות הבאות:

$$f(x) = \frac{3}{x} \quad \text{א.} \quad f(x) = -\frac{2}{x} \quad \text{ב.} \quad f(x) = \frac{1}{x^2} \quad \text{ג.}$$

$$f(x) = \frac{3}{x^3} \quad \text{ד.} \quad f(x) = \frac{1}{x^2 - 3x} \quad \text{ה.} \quad f(x) = \frac{2}{3-x} \quad \text{ו.}$$

$$f(x) = \frac{6}{x+5} \quad \text{ז.}$$

(7) גזור את הפונקציות הבאות:

$$f(x) = (5x+1)(x-3) \quad \text{א.} \quad f(x) = (5x+1)^3(x-3) \quad \text{ב.}$$

$$f(x) = x^3(6-x)^4 \quad \text{ג.} \quad f(x) = 3x^2 \cdot x \quad \text{ד.}$$

$$f(x) = x^2 \cdot x^3 \quad \text{ה.} \quad f(x) = x(3x+7) \quad \text{ו.}$$

$$f(x) = 3x^3(3x-1) \quad \text{ז.} \quad f(x) = (x-2)(2x^2+3) \quad \text{ח.}$$

$$f(x) = (3x-2)(x^2+10x) \quad \text{ט.} \quad f(x) = (3x^4-4x)(2x^2+5x+2) \quad \text{י.}$$

$$f(x) = x(x-2)(3x-4) \quad \text{יא.}$$

(8) גזור את הפונקציות הבאות:

$$\begin{array}{ll} \text{א. } f(x) = (x^2 - 4)^2 & \text{ב. } f(x) = 2x^3(3x + 5)^2 \\ \text{ג. } f(x) = (x^3 + 2)^2(x - 1)^3 & \text{ד. } f(x) = (x^2 + 1)^3(2x - 1)^2 \end{array}$$

(9) גזור את הפונקציות הבאות:

$$\begin{array}{lll} \text{א. } f(x) = \frac{3x - 1}{1 + 2x} & \text{ב. } f(x) = \frac{x^2 + 1}{5x - 12} & \text{ג. } f(x) = \frac{x^2 - 1}{x^2 + 3} \\ \text{ד. } f(x) = \frac{x^2 + 8}{x - 1} & \text{ה. } f(x) = \frac{1}{x} & \text{ו. } f(x) = \frac{3}{x^3} \\ \text{ז. } f(x) = \frac{(x - 1)^2}{x + 1} & \text{ח. } f(x) = \frac{(x^2 + 3)^2}{x^2 - 2} & \text{ט. } f(x) = \frac{x^3 - x^2}{2(1 - x)} \\ \text{י. } f(x) = \frac{x - 2}{x^2 - 4} & & \end{array}$$

(10) גזור את הפונקציות הבאות:

$$\begin{array}{lll} \text{א. } f(x) = \sqrt{x} & \text{ב. } f(x) = 4\sqrt{x + 1} & \text{ג. } f(x) = \sqrt{x^3 - 1} \\ \text{ד. } f(x) = (3x + 1)\sqrt{x} & \text{ה. } f(x) = x^2\sqrt{x + 3} & \text{ו. } f(x) = \frac{x + 3}{\sqrt{x}} \end{array}$$

(11) גזור את הפונקציות הבאות:

$$\begin{array}{ll} \text{א. } f(x) = \sqrt{x + 1} & \text{ב. } f(x) = \sqrt{2x} \\ \text{ג. } f(x) = \sqrt{3x^2 + 1} & \text{ד. } f(x) = \sqrt{10 - 3x} \\ \text{ה. } f(x) = \sqrt{2x^2 + 7x} & \text{ו. } f(x) = 3x^2 - 8\sqrt{x} \\ \text{ז. } f(x) = x^2\sqrt{1 - 2x} & \text{ח. } f(x) = \frac{\sqrt{x}}{x} \\ \text{ט. } f(x) = \frac{x\sqrt{x^2 + 4}}{2} & \text{י. } f(x) = \frac{x + 3}{\sqrt{1 - x^2}} \\ \text{יא. } f(x) = \frac{2x^3 - x^2 + x - 5\sqrt{x}}{x\sqrt{x}} & \text{יב. } f(x) = \sqrt{\frac{3 - x}{x}} \\ \text{יג. } f(x) = \sqrt{\frac{1 + x^2}{1 - x}} & \text{יד. } f(x) = \frac{x^2 + 7}{\sqrt{x^2 - 5}} \end{array}$$

$$f(x) = \frac{\sqrt{x+1}}{x-1} \quad \text{ט.ז.}$$

$$f(x) = \frac{\sqrt{x}}{x-1} \quad \text{ט.ו.}$$

(12) גזור את הפונקציות הבאות:

$$f(x) = \frac{x-2a}{x-4a} \quad \text{ג.} \quad f(x) = \frac{ax^2}{3} - \frac{x}{b} + c \quad \text{ב.}$$

$$f(x) = ax^4 - bx \quad \text{א.}$$

$$f(x) = a\sqrt{bx^2 + c} \quad \text{ד.}$$

(13) גזור פעמיים את הפונקציות הבאות:

$$f(x) = \frac{x^2 - 5x + 6}{2x + 10} \quad \text{ב.}$$

$$f(x) = \frac{x^2 + 2x + 4}{2x} \quad \text{א.}$$

$$f(x) = \frac{x^3}{x^2 - 4} \quad \text{ד.}$$

$$f(x) = \frac{2x^2}{(x+1)^2} \quad \text{ג.}$$

$$f(x) = \left(\frac{x+1}{x-1}\right)^3 \quad \text{ו.}$$

$$f(x) = \frac{x^3}{(x+1)^2} \quad \text{ה.}$$

תשובות סופיות:

- (1) א. $3x^2$ ב. $7x^6$ ג. $2x$ ד. 1 ה. $-\frac{3}{x^4}$ ו. $-\frac{1}{x^2}$
- ז. $\frac{1}{2\sqrt{x}}$ ח. $\frac{1}{3\sqrt[3]{x^2}}$ ט. $\frac{3}{4\sqrt[4]{x}}$
- (2) א. $6x^2$ ב. $21x^6$ ג. $2x^3$ ד. $\frac{6x^5}{7}$ ה. 8
- ו. $-\frac{6}{x^3}$ ז. $-\frac{4}{x^2}$ ח. $\frac{3}{\sqrt{x}}$ ט. $\frac{2}{9\sqrt[3]{x}}$
- (3) א. 0 ב. 0
- (4) א. $3x^2 + 4x - 3$ ב. $x^3 - \frac{x^2}{2} + \frac{3}{4}$ ג. $14x + 23$ ד. $12x + 8$ ה. $x - 3x^2$ ו. $0.5x^3$
- (5) א. $15(5x - 2)^2$ ב. $15x^2(x^3 + 6)^4$ ג. $6(x - x^2)(1 - 2x)$
- ד. $-\frac{3}{4}(5 - x)^2$ ה. $\frac{8(x + 1)^3}{3}$
- (6) א. $-\frac{3}{x^2}$ ב. $\frac{2}{x^2}$ ג. $-\frac{2}{x^3}$ ד. $-\frac{9}{x^4}$ ה. $-\frac{2x - 3}{(x^2 - 3x)^2}$
- ו. $\frac{2}{(3 - x)^2}$ ז. $-\frac{6}{(x + 5)^2}$
- (7) א. $10x - 14$ ב. $(5x + 1)^2(20x - 44)$ ג. $x^2(6 - x)^3(18 - 7x)$
- ד. $9x^2$ ה. $5x^4$ ו. $6x + 7$ ז. $36x^3 - 9x^2$ ח. $6x^2 - 8x + 3$
- ט. $9x^2 + 56x - 20$ י. $36x^5 + 75x^4 + 24x^3 - 24x^2 - 40x - 8$ יא. $9x^2 - 20x + 8$
- (8) א. $4x(x^2 - 4)$ ב. $30x^2(x + 1)(3x + 5)$ ג. $3(x - 1)^2(x^3 + 2)(3x^3 - 2x^2 + 2)$
- ד. $2(2x - 1)(x^2 + 1)^2(8x^2 - 3x + 2)$
- (9) א. $\frac{5}{(1 + 2x)^2}$ ב. $\frac{5x^2 - 24x - 5}{(5x - 12)^2}$ ג. $\frac{8x}{(x^2 + 3)^2}$ ד. $\frac{(x - 4)(x + 2)}{(x - 1)^2}$
- ה. $-\frac{1}{x^2}$ ו. $-\frac{9}{x^4}$ ז. $\frac{x^2 + 2x - 3}{(x + 1)^2}$
- ח. $\frac{2x(x^2 + 3)(x^2 - 7)}{(x^2 - 2)^2}$ ט. $-x$ י. $-\frac{1}{(x + 2)^2}$

$$\frac{x(5x+12)}{2\sqrt{x+3}} \cdot \text{ה} \quad \frac{9x+1}{2\sqrt{x}} \cdot \text{ז} \quad \frac{3x^2}{2\sqrt{x^3-1}} \cdot \text{ג} \quad \frac{2}{\sqrt{x+1}} \cdot \text{ב} \quad \frac{1}{2\sqrt{x}} \cdot \text{א} \quad (10)$$

$$\frac{x-3}{2x\sqrt{x}} \cdot \text{ו}$$

$$\frac{4x+7}{2\sqrt{2x^2+7x}} \cdot \text{ה} \quad -\frac{3}{2\sqrt{10-3x}} \cdot \text{ז} \quad \frac{3x}{\sqrt{3x^2+1}} \cdot \text{ג} \quad \frac{1}{\sqrt{2x}} \cdot \text{ב} \quad \frac{1}{2\sqrt{x+1}} \cdot \text{א} \quad (11)$$

$$\frac{1-3x}{(1-x^2)^{1.5}} \cdot \text{ו} \quad \frac{x^2+2}{\sqrt{x^2+4}} \cdot \text{ט} \quad -\frac{1}{2x\sqrt{x}} \cdot \text{ה} \quad \frac{2x-5x^2}{\sqrt{1-2x}} \cdot \text{ז} \quad 6x - \frac{4}{\sqrt{x}} \cdot \text{ו}$$

$$\frac{-x^2+2x+1}{2(1-x)^{1.5}\sqrt{1+x^2}} \cdot \text{ז} \quad -\frac{3}{2x\sqrt{3x-x^2}} \cdot \text{ב} \quad 3\sqrt{x} - \frac{1}{2\sqrt{x}} - \frac{1}{2x\sqrt{x}} + \frac{5}{x^2} \cdot \text{א}$$

$$-\frac{x+3}{2(x-1)^2\sqrt{x+1}} \cdot \text{ט} \quad -\frac{x+1}{2\sqrt{x}(x-1)^2} \cdot \text{ט} \quad \frac{x^3-17x}{(x^2-5)^{1.5}} \cdot \text{ז}$$

$$\frac{abx}{\sqrt{bx^2+c}} \cdot \text{ז} \quad \frac{-2a}{(x-4a)^2} \cdot \text{ג} \quad \frac{2ax}{3} - \frac{1}{b} \cdot \text{ב} \quad 4ax^3 - b \cdot \text{א} \quad (12)$$

$$\cdot f'(x) = \frac{2x^2-8}{4x^2}, f''(x) = \frac{4}{x^3} \cdot \text{א} \quad (13)$$

$$\cdot f'(x) = \frac{2x^2+20x-62}{(2x+10)^2}, f''(x) = \frac{448}{(2x+10)^3} \cdot \text{ב}$$

$$\cdot f'(x) = \frac{4x}{(x+1)^3}, f''(x) = \frac{4(1-2x)}{(x+1)^4} \cdot \text{ג}$$

$$\cdot f'(x) = \frac{x^2(x^2-12)}{(x^2-4)^2}, f''(x) = \frac{8x(x^2+12)}{(x^2-4)^3} \cdot \text{ד}$$

$$\cdot f'(x) = \frac{x^2(x+3)}{(x+1)^3}, f''(x) = \frac{6x}{(x+1)^4} \cdot \text{ה}$$

$$f'(x) = -\frac{6(x+1)^2}{(x-1)^4}, f''(x) = \frac{12(x+1)(x+3)}{(x-1)^5} \cdot \text{ו}$$

מציאת שיפוע המשיק לגרף הפונקציה:

שאלות:

(14) מצא את שיפוע הפונקציה $f(x) = 2x^3 - 7x$ בנקודה $(2, 2)$.

(15) מצא את שיפוע הפונקציה $f(x) = \frac{1}{x^2 - 3}$ בנקודה בה $x = -2$.

(16) מצא את שיפוע המשיק לפונקציה $f(x) = 4\sqrt{x}$ בנקודה בה $x = 1$.

תשובות סופיות:

$$m = 17 \quad (14)$$

$$m = 4 \quad (15)$$

$$m = 2 \quad (16)$$

מציאת משוואת המשיק לגרף הפונקציה:

שאלות:

(17) מצא את משוואת המשיק לפונקציה $f(x) = 2(4x+3)^3$ בנקודה בה $x = -1$.

(18) מצא את משוואת המשיק לפונקציה $f(x) = \frac{8}{x+1}$ בנקודה בה $y = 2$.

(19) מצא את משוואות המשיקים לפונקציה $f(x) = x^2 - 2x - 8$ בנקודות החיתוך שלה עם ציר ה- x .

(20) מצא את משוואת המשיק לפונקציה $f(x) = x^4 - 2x$ ששיפועו 2.

(21) מצא את משוואת המשיק לפונקציה $f(x) = \frac{x^3 + 3x - 1}{x^2 - 2}$ בנקודה שבה $x = 1$.

(22) נתון כי הישר $2y - 3x = 3$ משיק לגרף הפונקציה $f(x) = 3\sqrt{x}$. מצא את נקודת ההשקה.

(23) מצא את משוואת המשיק לפונקציה $f(x) = \frac{1}{x} + \sqrt{x}$ בנקודה בה $x = 1$.

(24) מצא את משוואת המשיק לפונקציה $f(x) = 3x^2 - 8\sqrt{x}$ בנקודה בה $x = 4$.

(25) נתונה הפונקציה הבאה $f(x) = 4x - 2\sqrt{x}$.

א. מצא את משוואת המשיק לגרף הפונקציה המקביל לישר $f(x) = 3x - \frac{1}{2}$.

ב. מצא את נקודת החיתוך של המשיק עם ציר ה- x .

(26) מצא את משוואת המשיק לפונקציה $f(x) = \frac{4}{\sqrt{x-1}}$ ששיפועו -2.

(27) מצא את משוואות המשיק לפונקציה $f(x) = \frac{x-3}{\sqrt{x^2-x+2}}$ בנקודה שבה $x=2$.

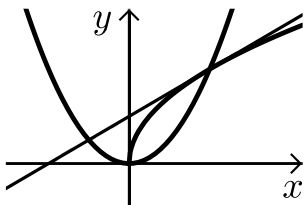
(28) מצא את משוואות המשיקים לפונקציה $f(x) = \frac{1}{3x^3}$ היוצרים עם הכיוון החיובי של ציר ה- x זווית של 135° .

(29) מצא את משוואות המשיקים המשותפים לפונקציות הבאות: $y = x^2$, $y = -\frac{1}{4}x^2 - 5$.

(30) נתונה הפונקציה: $f(x) = \frac{\sqrt{x^2+3}}{x}$ ונתון הישר: $y = 2x$.

- מצא את נקודת החיתוך של הפונקציה והישר הנמצאת ברביע הראשון.
- מצא את משוואות המשיק לגרף הפונקציה בנקודה שמצאת בסעיף הקודם.
- חשב את השטח שנוצר בין המשיק והצירים.

(31) באיור שלפניך מתוארים הגרפים של הפונקציות: $f(x) = \sqrt{x}$, $g(x) = x^2$.



- מצא את נקודות החיתוך של הגרפים.
- מצא את משוואת המשיק לגרף הפונקציה $f(x)$ העובר דרך נקודת החיתוך שמצאת הנמצאת ברביע הראשון.
- מצא את נקודת החיתוך הנוספת של המשיק שמצאת עם גרף הפונקציה $g(x)$.

תשובות סופיות:

(17) $y = 24x + 22$

(18) $y = -\frac{1}{2}x + 3\frac{1}{2}$

(19) $y = 6x - 24, y = -6x - 12$

(20) $y = 2x - 3$

(21) $y = -12x + 9$

(22) $(1, 3)$

(23) $y = -\frac{1}{2}x + 2\frac{1}{2}$

(24) $y = 22x - 56$

(25) $y = 3x - 1$.א $\left(\frac{1}{3}, 0\right)$.ב

(26) $y = -2x + 8$

(27) $y = \frac{11}{16}x - \frac{15}{8}$

(28) $y = -x + 1\frac{1}{3}, y = -x - 1\frac{1}{3}$

(29) $y = 2x - 1, y = -2x - 1$

(30) .א $(1, 2)$.ב $y = -1.5x + 3.5$.ג $S = 4\frac{1}{12}$

(31) .א $(0, 0), (1, 1)$.ב $y = 0.5x + 0.5$.ג $(-0.5, 0.25)$

שאלות עם פרמטרים:

שאלות:

(32) שיפוע המשיק לפונקציה $f(x) = ax^2 - 4x$ בנקודה שבה $x = 3$ הוא 8. מצא את ערכו של הפרמטר a ואת משוואת המשיק.

(33) נתונה הפונקציה $f(x) = \sqrt{ax}$, $(a > 0)$.

המשיק לפונקציה בנקודה שבה $x = \frac{1}{2}$ הוא בעל שיפוע 1. מצא את ערך הפרמטר a .

(34) נתונה הפונקציה: $y = x^3 + a\sqrt{x}$ (a פרמטר).

שיפוע המשיק לגרף הפונקציה בנקודה שבה $x = 1$ הוא 5. מצא את ערך הפרמטר a .

(35) נתונה הפונקציה: $y = 2\sqrt{x} - \frac{A}{x}$ (A פרמטר).

שיפוע המשיק לגרף הפונקציה בנקודה שבה $x = 1$ הוא 2. מצא את ערך הפרמטר A .

(36) הישר $y = 4x + b$ משיק לגרף הפונקציה $f(x) = \frac{2}{x^2} + 3$.

מצא את b ואת נקודת ההשקה.

(37) שיפוע המשיק לפונקציה $f(x) = \frac{2}{ax+3}$ בנקודה שבה $y = 2$ הוא -4.

מצא את ערכו של הפרמטר a ואת משוואת המשיק.

(38) הישר $y = ax + \frac{1}{2}$ משיק לגרף הפונקציה $g(x) = \frac{2}{x+c}$ בנקודה $x = 0$.

מצא את ערכי הפרמטרים a ו- c .

(39) הישר $y = 3x$ משיק לגרף הפונקציה $f(x) = x\sqrt{x} + b$.

מצא את b ואת נקודת ההשקה.

(40) שיפוע המשיק לפונקציה $f(x) = \frac{a}{\sqrt{bx-1}}$ בנקודה (1, 6) הוא -6.

מצא את ערכי הפרמטרים a ו- b ואת משוואת המשיק.

(41) לאילו ערכי k ישיק הישר $y = -5x + 6$ לגרף הפונקציה $f(x) = x^3 - 2x^2 - 4x + k$?
לכל ערך כזה של k מצא את נקודת ההשקה.

(42) הפונקציות $y = \frac{1}{x}$ ו- $y = -\frac{1}{2}x^2 + k$ משיקות זו לזו.

מצא את k ואת נקודת ההשקה.

תשובות סופיות:

$a = 2, y = 8x - 18$ (32)

$a = 2$ (33)

$a = 4$ (34)

$A = 1$ (35)

$(-1, 5), y = 4x + 9$ (36)

$a = 2, y = -4x - 2$ (37)

$a = -\frac{1}{8}, c = 4$ (38)

$b = 4, (4, 12)$ (39)

$b = 2, a = 6, y = -6x + 12$ (40)

$k = \frac{158}{27} : \left(\frac{1}{3}, \frac{13}{3}\right)$ או $k = 6 : (1, 1)$ (41)

$(1, 1), k = 1.5$ (42)

שאלות העוסקות במציאת משוואת משיק מנקודה חיצונית:

שאלות:

43) ענה על הסעיפים הבאים:

- א. בטא באמצעות t את משוואת המשיק לפונקציה $f(x) = x^2 + 1$ בנקודה שבה $x = t$.
- ב. מצא את ערכיו של t אם נתון שהמשיק עובר בנקודה $(-1, 1)$.

44) מצא את משוואות המשיקים לגרף הפונקציה: $f(x) = 5x - x^2$ העוברים דרך הנקודה $(3, 7)$.

45) מצא את משוואות המשיקים לגרף הפונקציה: $f(x) = x^2 + 5x - 6$ העוברים דרך הנקודה $(0, -10)$.

46) מצא את משוואות המשיקים לגרף הפונקציה: $f(x) = 12x - x^3$ העוברים דרך הנקודה $(2, 24)$.

47) מצא את משוואת המשיק לפונקציה $f(x) = \frac{1}{\sqrt{x}}$ העובר בנקודה $(3, 0)$.

48) מצא משוואת המשיק לפונקציה: $f(x) = \frac{1}{\sqrt{x}}$ אם ידוע ששטח המשולש שהוא יוצר עם הצירים הוא 4.5 יחידות שטח.

49) מצא את משוואות המשיקים לגרף הפונקציה: $f(x) = \frac{2}{\sqrt{x-2}}$ העוברים דרך הנקודה $(2, 3)$.

תשובות סופיות:ב. $t = 0, -2$.

(43) $y = 2tx - t^2 + 1$

(44) $y = x + 4$, $y = -3x + 16$

(45) $y = 9x - 10$, $y = x - 10$

(46) $y = 12x$, $y = -15x + 54$

(47) $y = -\frac{1}{2}x + 1\frac{1}{2}$

(48) $y = -\frac{1}{16}x + \frac{3}{4}$

(49) $y = -x + 5$

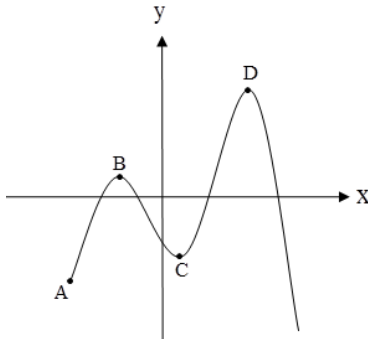
מכינה במתמטיקה להנדסת מכונות

פרק 32 - חשבון דיפרנציאלי - חקירת פונקצית פולינום

תוכן העניינים

539	1. נקודות קיצון של פונקציות
542	2. חקירת פונקציה פולינומית
546	3. פונקציה זוגית ואי-זוגית

נקודות קיצון של פונקציות:



סיכום כללי:

נקודות קיצון (נקודות מינימום/מקסימום):

- מינימום או מקסימום מקומי (פנימי) – B, C, D.
- מינימום או מקסימום קצה – A.
- מינימום או מקסימום מוחלט – D.

נקודות קיצון מקומיות:

- שיפוע המשיק לפונקציה בנקודות קיצון מקומיות הוא אפס.
- בנקודה שבה שיפוע המשיק לפונקציה הוא אפס תיתכן נקודת קיצון מקומית.
- נקודה כזו נקראת נקודה חשודה כקיצון. ניתן לבדוק אם היא אכן נקודת קיצון.

שלבים למציאת נקודות קיצון מקומיות:

- נגזור את הפונקציה.
- נשווה את הנגזרת לאפס ונחלץ את ערכי ה- x של הנקודות החשודות כקיצון.
- נציב את ערכי ה- x מסעיף ב' בפונקציה המקורית לקבלת ערכי ה- y .
- נקבע אם הנקודה היא נקודת קיצון ונסווג את סוג הקיצון על ידי טבלה.

שאלות:

(1) מצא את נקודות הקיצון של הפונקציה $f(x) = 10x - x^2$.

(2) נתונה הפונקציה $f(x) = x^3 - 12x$.

- א. מהן נקודות הקיצון של הפונקציה?
 ב. מהם תחומי העלייה והירידה של הפונקציה?

- (3) נתונה הפונקציה $f(x) = x^4 - 10x^2 + 9$.
 א. מהן נקודות הקיצון של הפונקציה?
 ב. מהם תחומי העלייה והירידה של הפונקציה?
- (4) נתונה הפונקציה $f(x) = x^4 - 4x^3 + 32$.
 א. מהן נקודות הקיצון של הפונקציה?
 ב. מהם תחומי העלייה והירידה של הפונקציה?
- (5) לפונקציה $f(x) = ax - x^3 - 5$ יש נקודת קיצון בנקודה שבה $x = -1$.
 מצא את ערכו של הפרמטר a .
- (6) נתונה הפונקציה $f(x) = ax^3 + x^2$. ידוע שהנקודה $x = 1$ נקודת קיצון.
 מצא את הקבוע a .
- (7) לפונקציה $f(x) = Ax^3 + Bx^2 - 1$ יש נקודת קיצון ששיעוריה: $(2, 3)$.
 מצא את ערכי הפרמטרים A, B .
- (8) לפונקציה $f(x) = Ax^3 + Bx^2 - 4x$ יש נקודת קיצון ב- $x = -1$ ו- $x = 4$.
 מצא את הפרמטרים ואת שיעור ה- y של שתי נקודות הקיצון.
- (9) נתונה הפונקציה $f(x) = ax^3 + bx^2$. ידוע שהנקודה $(1, 2)$ נקודת קיצון.
 מצא את הפרמטרים a, b .
- (10) לפונקציה $f(x) = ax^4 + bx^2 + 35$ יש נקודת קיצון ששיעוריה $(2, 3)$.
 מצא את ערכי הפרמטרים a, b .

תשובות סופיות:

(1) $\max(5, 25)$

(2) א. $\min(2, -16)$, $\max(-2, 16)$ ב. עולה: $x > 2$, $x < -2$ יורדת: $-2 < x < 2$.

(3) א. $\max(0, 9)$, $\min(\sqrt{5}, -16)$, $\min(-\sqrt{5}, -16)$

ב. עולה: $-\sqrt{5} < x < 0$, $x > \sqrt{5}$ יורדת: $0 < x < \sqrt{5}$, $x < -\sqrt{5}$.

(4) א. $\min(3, 5)$ ב. עולה: $x > 3$ יורדת: $x < 3$.

(5) $a = 3$

(6) $a = -\frac{2}{3}$

(7) $A = -1$, $B = 3$

(8) $A = \frac{1}{3}$, $B = -\frac{3}{2}$, $\left(-1, 2\frac{1}{6}\right)$, $\left(4, -18\frac{2}{3}\right)$

(9) $b = 6$, $a = -4$

(10) $a = 2$, $b = -16$

חקירת פונקציה פולינומית:

שאלות:

11 נתונה הפונקציה $f(x) = 10x - x^2$.

חקור את הפונקציה על פי הסעיפים הבאים:

- מהו תחום ההגדרה של הפונקציה?
- מצא את נקודות הקיצון של הפונקציה.
- מצא את תחומי העלייה והירידה של הפונקציה.
- מצא את נקודות החיתוך של הפונקציה עם הצירים.
- שרטט סקיצה של גרף הפונקציה.

12 נתונה הפונקציה $f(x) = x^3 - 12x$.

חקור את הפונקציה על פי הסעיפים הבאים:

- מציאת תחום ההגדרה.
- מציאת נקודות קיצון של הפונקציה.
- כתיבת תחומי העלייה והירידה של הפונקציה.
- מציאת נקודות החיתוך של גרף הפונקציה עם הצירים.
- שרטוט סקיצה של גרף הפונקציה.

13 נתונה הפונקציה $f(x) = x^4 - 10x^2 + 9$.

חקור את הפונקציה על פי הסעיפים הבאים:

- מציאת תחום ההגדרה.
- מציאת נקודות קיצון של הפונקציה.
- כתיבת תחומי העלייה והירידה של הפונקציה.
- מציאת נקודות החיתוך של גרף הפונקציה עם הצירים.
- שרטוט סקיצה של גרף הפונקציה.

14 נתונה הפונקציה $f(x) = x^4 - 4x^3 + 32$ חקור את הפונקציה על פי הסעיפים הבאים:

- מציאת תחום ההגדרה.
- מציאת נקודות קיצון של הפונקציה.
- כתיבת תחומי העלייה והירידה של הפונקציה.
- מציאת נקודות החיתוך של גרף הפונקציה עם הצירים.
- שרטוט סקיצה של גרף הפונקציה.

15 נתונה הפונקציה $f(x) = x^3$ חקור את הפונקציה על פי הסעיפים הבאים:

- מציאת תחום ההגדרה.
- מציאת נקודות קיצון של הפונקציה.
- כתיבת תחומי העלייה והירידה של הפונקציה.
- מציאת נקודות החיתוך של גרף הפונקציה עם הצירים.
- שרטוט סקיצה של גרף הפונקציה.

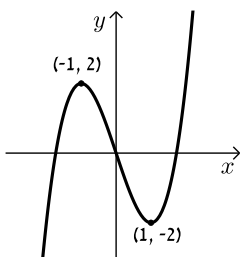
16 נתונה הפונקציה: $f(x) = 2x^3 - 3ax^2 + 54x - 50$.

- לאילו ערכים של הפרמטר a עולה הפונקציה בכל תחום הגדרתה?
- הצב בפונקציה $a = 6$ וחקור את הפונקציה על פי הסעיפים הבאים: תחום הגדרה, נקודות קיצון, תחומי עלייה וירידה, נקודת חיתוך עם ציר ה- y , סרטוט.

17 נתונה הפונקציה: $y = -3x^3 + 6x^2 - 4x + d$ (פרמטר d).

ידוע כי הפונקציה חותכת את ציר ה- x בנקודה שבה: $x = 2$.

- מצא את d .
- האם יש לפונקציה נקודות קיצון?
- כתוב את תחומי העלייה וירידה של הפונקציה.
- מצא את נקודת החיתוך של הפונקציה עם ציר ה- y .
- שרטט סקיצה של גרף הפונקציה.

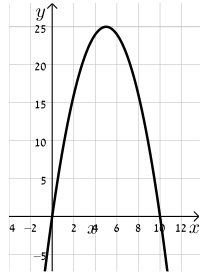


18 לפניך גרף הפונקציה $f(x) = x^3 - 3x$:

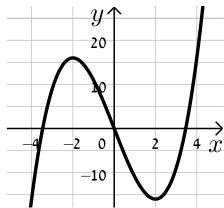
- מהו מספר הפתרונות של המשוואה $f(x) = 5$?
- מהו מספר הפתרונות של המשוואה $f(x) = 2$?
- מהו מספר הפתרונות של המשוואה $f(x) = 0.5$?
- עבור איזה ערך של k למשוואה $f(x) = k$ יש בדיוק פתרון אחד?
- עבור איזה ערך של k למשוואה $f(x) = k$ יש בדיוק שני פתרונות?
- עבור איזה ערך של k למשוואה $f(x) = k$ יש בדיוק שלושה פתרונות?
- האם קיים ערך של k עבורו למשוואה $f(x) = k$ אין פתרון?

תשובות סופיות:

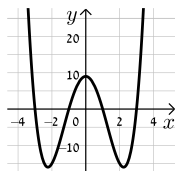
- (11)** א. כל x ב. $\max(5,25)$ ג. עלייה: $x < 5$, ירידה: $x > 5$ ד. $(0,0)$, $(10,0)$.
ה. להלן גרף:



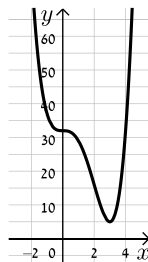
- (12)** א. כל x ב. $\min(2,-16)$, $\max(-2,16)$ ג. עלייה: $x > 2$, $x < -2$, ירידה: $-2 < x < 2$ ד. $(0,0)$, $(\sqrt{12},0)$, $(-\sqrt{12},0)$.
ה. להלן גרף:



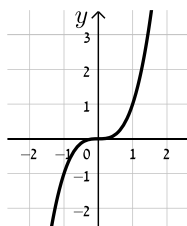
- (13)** א. כל x ב. $\max(0,9)$, $\min(\sqrt{5},-16)$, $\min(-\sqrt{5},-16)$ ג. עלייה: $-\sqrt{5} < x < 0$, $x > \sqrt{5}$, ירידה: $x < -\sqrt{5}$, $0 < x < \sqrt{5}$ ד. $(0,9)$, $(\pm 1,0)$, $(\pm 3,0)$.
ה. להלן גרף:



- (14)** א. כל x ב. $\min(3,5)$ ג. תחומי עלייה: $x > 3$, תחומי ירידה: $x < 3$ ד. $(0,32)$.
ה. להלן גרף:

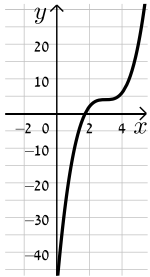


- (15)** א. כל x ב. אין. ג. עולה לכל x ד. $(0,0)$.
ה. להלן גרף:



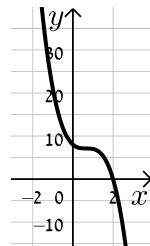
16) א. $-6 < a < 6$ ב. תחום הגדרה: כל x , נקודות קיצון: אין, תחומי עלייה: כל x ,

תחומי ירידה: אין, נקודת חיתוך עם הצירים: $(0, -50)$, להלן גרף:



17) א. $d = 8$ ב. לא ג. יורדת בתחום $x \neq \frac{2}{3}$

ד. $(0, 8)$ ה. להלן גרף:



18) א. 1 ב. 2 ג. 3 ד. $k > 2, k < -2$

ה. $k = \pm 2$ ו. $-2 < k < 2$ ז. לא

פונקציה זוגית ואי-זוגית:

סיכום כללי:

הגדרות:

- פונקציה $f(x)$ תיקרא זוגית אם לכל x בתחום הגדרתה מתקיים: $f(x) = f(-x)$.
- פונקציה $f(x)$ תיקרא אי-זוגית אם לכל x בתחום הגדרתה מתקיים: $f(-x) = -f(x)$.

שאלות:

(1) קבע אלו מהפונקציות הבאות הן זוגיות/אי-זוגיות לא זו ולא זו:

א. $f(x) = 3x - 5$

ב. $f(x) = 3x^2$

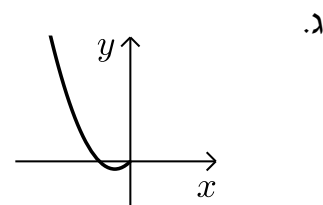
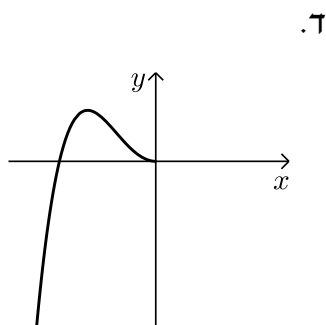
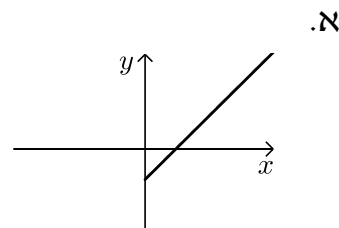
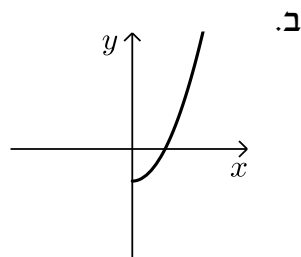
ג. $f(x) = 2x^3$

ד. $f(x) = x^3 - 2x^2$

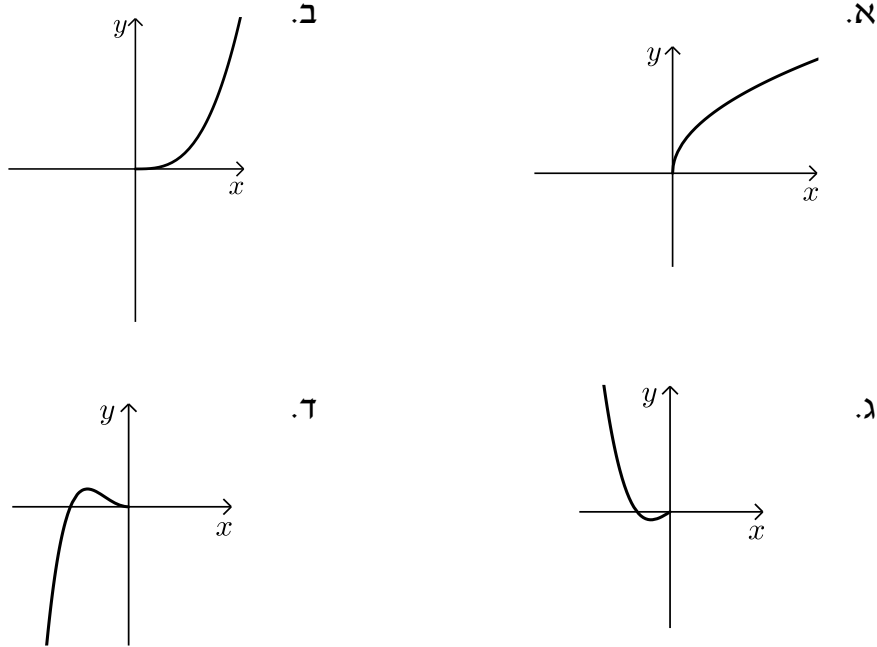
ה. $f(x) = 4x^4 - 3x^2 + 1$

ו. $f(x) = 4x^5 - 3x^3 - 1$

(2) הפונקציות המסורטטות להלן מוגדרות לכל x . השלם את ציור הגרף של הפונקציה כך שתקבל פונקציה זוגית:



3) הפונקציות המסורטטות להלן מוגדרות לכל x . השלם את ציור הגרף של הפונקציה כך שתקבל פונקציה אי-זוגית:



4) נתונה הפונקציה הבאה: $f(x) = x^4 - 4x^2$ בתחום: $[0:3]$.

א. חקור את הפונקציה בתחום הנ"ל לפי הסעיפים הבאים:

- i. תחום הגדרה.
- ii. מציאת נקודות חיתוך עם הצירים.
- iii. מציאת נקודות קיצון וסיווגן.
- iv. כתיבת תחומי עלייה וירידה.
- v. סרטוט סקיצה של גרף הפונקציה.

ב. הוכח כי הפונקציה $f(x)$ היא פונקציה זוגית.

ג. התבסס על ממצאריך מהסעיפים הקודמים וסרטט את הפונקציה בתחום: $[-3:3]$ (הוסף את סרטוט גרף הפונקציה בתחום $[-3:0]$ לגרף שסרטטת בסעיף הקודם).

5) נתונה הפונקציה הבאה : $f(x) = x^6 - 3x^2 + 3$.

- א. חקור את הפונקציה בתחום : $[0:4]$ לפי הסעיפים הבאים :
 תחום הגדרה, מציאת חיתוך עם ציר ה- y , מציאת נקודות קיצון וסיווגן, כתיבת תחומי עלייה וירידה, סרטוט סקיצה בתחום הנ"ל.
- ב. האם הפונקציה היא זוגית? אי-זוגית? לא זו ולא זו?
 נמק באמצעות חישוב מתאים.
- ג. הסתמך על ממציאך מהסעיפים הקודמים והוסף לסקיצה ששרטטת בסעיף א', את עקום הפונקציה בתחום $[-4:0]$.
- ד. הוכח כי הפונקציה חיובית לכל x בתחום הגדרתה.

6) לפניך הפונקציה : $f(x) = -2x^6 + 3x^4 + a$, פרמטר a .

ידוע כי לפונקציה ערך מירבי של 1.

- א. מצא את a וכתוב את הפונקציה $f(x)$.
- ב. חקור את הפונקציה בתחום : $[-2:0]$ לפי הסעיפים הבאים :
 כתיבת תחום הגדרה, מציאת נקודות חיתוך עם הצירים, מציאת נקודות קיצון וסיווגן, כתיבת תחומי עלייה וירידה, סרטוט סקיצה.
- ג. האם הפונקציה היא זוגית? אי-זוגית? לא זה ולא זה?
 נמק באמצעות חישוב מתאים.
- ד. הסתמך על ממציאך מהסעיפים הקודמים ושרטט את גרף הפונקציה בתחום : $[-2:2]$.

7) נתונה הפונקציה הבאה : $f(x) = 3x^3 - 9x$.

- א. חקור את הפונקציה בתחום : $[0:5]$ לפי הסעיפים הבאים :
 כתיבת תחום הגדרה, מציאת נקודות חיתוך עם הצירים, מציאת נקודות קיצון וסיווגן, כתיבת תחומי עלייה וירידה, סרטוט סקיצה.
- ב. הוכח כי הפונקציה היא אי-זוגית.
- ג. התבסס על ממציאך מהסעיפים הקודמים ושרטט את הפונקציה בתחום : $[-5:5]$ (הוסף את סרטוט גרף הפונקציה בתחום $[-5:0]$ לגרף ששרטטת בסעיף הקודם).

- 8) לפניך הפונקציה הבאה: $f(x) = 5x^3 - 3x^5 + b$, פרמטר b . ידוע כי הישר $y = 2x$ עובר דרך כל הנקודות על גרף הפונקציה שמקיימות: $f'(x) = 0$.
- מצא את b וכתוב את הפונקציה $f(x)$.
 - חקור את הפונקציה בתחום: $[0:2]$ לפי הסעיפים הבאים:
 - תחום הגדרה.
 - מציאת נקודות חיתוך עם הצירים.
 - מציאת נקודות קיצון וסיווגן.
 - כתיבת תחומי עלייה וירידה.
 - סרטוט סקיצה של גרף הפונקציה.
 - בדוק האם הפונקציה היא זוגית/אי-זוגית או לא זו ולא זו. נמק את קביעתך באמצעות חישוב מתאים.
 - הסתמך על ממציאך מהסעיפים הקודמים והוסף לסקיצה של גרף הפונקציה את הגרף בתחום $[-2:0]$.

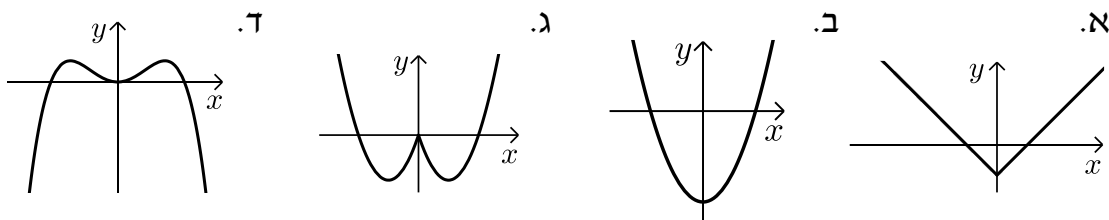
9) נתונה הפונקציה: $f(x) = \frac{x^7 - x}{3}$

- חקור את הפונקציה בתחום: $[-4:0]$ לפי הסעיפים הבאים:
 - תחום הגדרה.
 - מציאת נקודות חיתוך עם הצירים.
 - מציאת נקודות קיצון וסיווגן (בתשובתך השאר עד 2 ספרות לאחר הנקודה העשרונית).
 - כתיבת תחומי עלייה וירידה.
 - סרטוט סקיצה של גרף הפונקציה.
- האם הפונקציה היא זוגית? אי-זוגית? או לא זו ולא זו? נמק ע"י חישוב מתאים.
- הסתמך על ממציאך מהסעיפים הקודמים והוסף לסקיצה שעשית את גרף הפונקציה בתחום $[0:4]$.

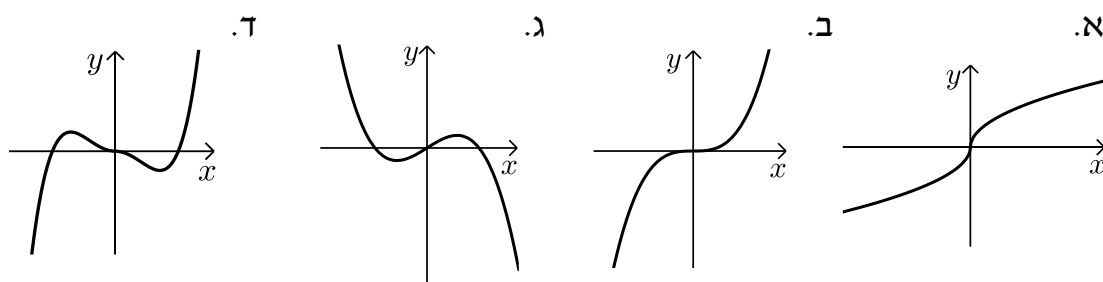
תשובות סופיות:

1) זוגית: ב', ה'. אי-זוגית: ג', לא זו ולא זו: א', ד', ו'.

2) להלן הגרפים:



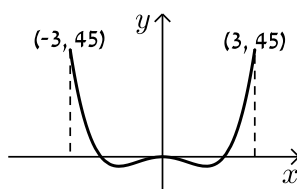
3) להלן הגרפים:



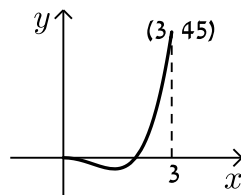
4) א. i. $0 \leq x \leq 3$ ii. $(0,0), (2,0)$ iii. $\max(3,45)$ קצה, $\min(\sqrt{2}, -4)$

iv. עולה: $\sqrt{2} < x < 3$, יורדת: $0 < x < \sqrt{2}$. ב. סעיף הוכחה.

סרטוט עבור סעיף ג:



סרטוט עבור חלק v:



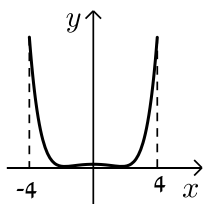
5) א. תחום הגדרה: $0 \leq x \leq 4$, חיתוך עם ציר ה- y : $(0,3)$,

נקודות קיצון: $\max(4,4051)$ קצה, $\min(1,1)$, $\max(0,3)$ קצה,

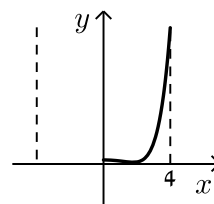
עולה: $1 < x < 4$, יורדת: $0 < x < 1$. ב. זוגית.

ד. הוכחה עפ"י הסרטוט.


סרטוט עבור סעיף ג:



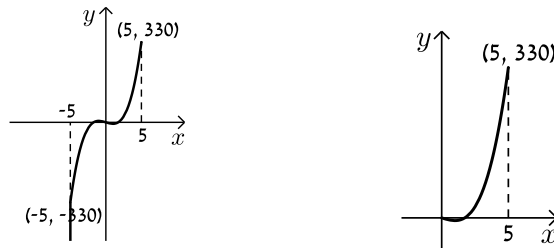
סרטוט עבור סעיף א:



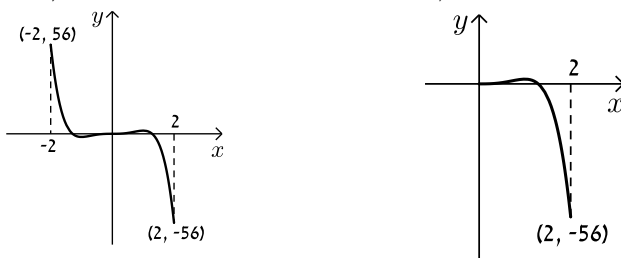
6. א. $a=0$ ב. תחום הגדרה: $-2 \leq x \leq 0$, חיתוך עם הצירים:
 נקודות קיצון: $(0,0)$, $(-1.225,0)$, $\min(-2,-80)$, $\max(-1,1)$, $\min(0,0)$ קצה,
 עולה: $-2 < x < -1$, יורדת: $-1 < x < 0$. ג. זוגית.
סרטוט עבור סעיף א: סרטוט עבור סעיף ד:



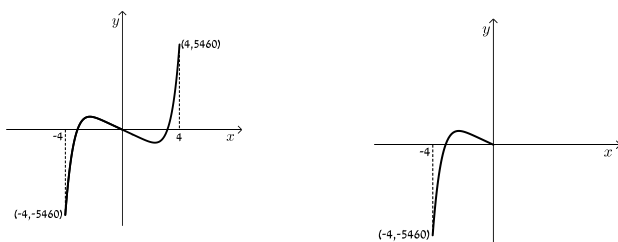
7. א. תחום הגדרה: $0 \leq x \leq 5$, חיתוך עם הצירים: $(0,0)$, $(\sqrt{3},0)$
 נקודות קיצון: $\max(5,330)$ קצה, $\min(1,-6)$, $\max(0,0)$ קצה,
 עולה: $1 < x < 5$, יורדת: $0 < x < 1$. ב. אי-זוגית.
סרטוט עבור סעיף א: סרטוט עבור סעיף ג:



8. א. $b=0$ ב. i $0 \leq x \leq 2$ ii $(0,0)$, $(1.29,0)$ iii $\min(2,-56)$ קצה,
 iv. עולה: $0 < x < 1$, יורדת: $1 < x < 2$. ג. אי-זוגית.
סרטוט עבור סעיף ד: סרטוט עבור חלק v:



9. א. i $-4 \leq x \leq 0$ ii $(-1,0)$, $(0,0)$ iii $\min(0,0)$ קצה, $\max(-0.723,0.207)$,
 iv. עולה: $-4 < x < -0.723$. ג. אי-זוגית. $-0.723 < x < 0$.
סרטוט עבור סעיף ד: סרטוט עבור חלק v:



מכינה במתמטיקה להנדסת מכונות

פרק 33 - חשבון דיפרנציאלי - חקירת פונקצית מנה ושורש

תוכן העניינים

552	1. מציאת תחום הגדרה
554	2. מציאת נקודות קיצון ותחומי עלייה וירידה
555	3. מציאת אסימפטוטות המקבילות לצירים
560	4. חקירת פונקצית מנה
569	5. חקירת פונקצית שורש
577	6. תחומי קעירות ונקודות פיתול
583	7. חקירת פונקציה עם פרמטר

מציאת תחום הגדרה:

סיכום כללי:

- כל פולינום מוגדר לכל x .
- בפונקציה עם מכנה, אסור שיתקבל אפס במכנה.
- בפונקציה עם שורש זוגי, אסור שיתקבל מספר שלילי בתוך השורש.

שאלות:

(1) מצא את תחום ההגדרה של הפונקציות הבאות:

א. $f(x) = x^2 + \frac{1}{2}x$	ב. $f(x) = 4x^3 - x^2 + \frac{x}{2} + 1$
ג. $f(x) = x^3 - x^2 - 4x + 1$	ד. $f(x) = \frac{2x}{x-3}$
ה. $f(x) = \frac{1}{x^2 - 4}$	ו. $f(x) = \frac{5x^3 + 4x}{x^2 - 1}$
ז. $f(x) = \frac{x^2}{x^2 - x - 2}$	ח. $f(x) = \frac{x^2 + 1}{x^2 - 2x - 8}$
ט. $f(x) = \frac{6}{x^2 + 1}$	י. $f(x) = \frac{4x + 1}{x^2 + 1}$
יא. $f(x) = \frac{1}{x^3 - x}$	יב. $f(x) = \frac{x^2}{x^3 - 4x}$

(2) מצא את תחום ההגדרה של הפונקציות הבאות:

א. $f(x) = \sqrt{x}$	ב. $f(x) = 2\sqrt{x-3}$
ג. $f(x) = \sqrt{x-4}$	ד. $f(x) = 3x\sqrt{1-2x}$
ה. $f(x) = \sqrt{x^2 + 3x - 10}$	ו. $f(x) = \sqrt{x^2 + x - 2}$
ז. $f(x) = \frac{5x}{\sqrt{x+4}}$	ח. $f(x) = \frac{\sqrt{x^2 + 5x + 6}}{x-1}$
ט. $f(x) = \sqrt{\frac{2x^2 + x - 3}{x^2 + 5x + 9}}$	י. $f(x) = \frac{x-2}{\sqrt{x^3 - 9x}}$
יא. $f(x) = \frac{1}{x + \sqrt{x+6}}$	יב. $f(x) = \frac{x+1}{x - \sqrt{2-x}}$
יג. $f(x) = \frac{1}{\sqrt{1- x }}$	יד. $f(x) = \sqrt{\sqrt{x+2} - 3}$

תשובות סופיות:

- (1) א. כל x ב. כל x ג. כל x ד. $x \neq 3$ ה. $x \neq \pm 2$ ו. $x \neq \pm 1$
 ז. $x \neq -1, 2$ ח. $x \neq 4, -2$ ט. כל x י. כל x יא. $x \neq \pm 1, 0$ יב. $x \neq \pm 2, 0$
- (2) א. $x \geq 0$ ב. $x \geq 3$ ג. $x \geq 4$ ד. $x \leq \frac{1}{2}$ ה. $x \leq -5, x \geq 2$
- ו. $x \leq -2, x \geq 1$ ז. $x > -4$ ח. $x \leq -3, -2 \leq x < 1, x > 1$ ט. $x \leq -1.5, x \geq 1$
 י. $-3 < x < 0, x > 3$ יא. $-6 \leq x < -2, x > -2$ יב. $x < 1, 1 < x \leq 2$
 יג. $-1 < x < 1$ יד. $x \geq 7$

מציאת נקודות קיצון ותחומי עלייה וירידה:

שאלות:

(3) נתונה הפונקציה: $f(x) = \frac{6x}{x^2 - 10x + 9}$.

- א. מהן נקודות הקיצון של הפונקציה?
 ב. מהם תחומי העלייה והירידה של הפונקציה?

תשובות סופיות:

(3) א. $\min\left(-3, -\frac{3}{8}\right), \max\left(3, -1\frac{1}{2}\right)$.

ב. עולה: $-3 < x < 3$, יורדת: $x < -3$, $3 < x \neq 9$, $x \neq 1$.

מציאת אסימפטוטות המקבילות לצירים:

סיכום כללי:

אסימפטוטה אנכית:

הגדרה: הישר: $x = k$ הוא אסימפטוטה אנכית של פונקציה מהצורה: $y = \frac{f(x)}{g(x)}$

אם הוא מקיים: $g(k) = 0$ וגם: $f(k) \neq 0$. בצורה מתמטית: אם: $\lim_{x \rightarrow k^+} \frac{f(x)}{g(x)} = \pm\infty$

או: $\lim_{x \rightarrow k^-} \frac{f(x)}{g(x)} = \pm\infty$ או שניהם אז הישר: $x = k$ הוא אסימפטוטה אנכית לפונקציה $y = \frac{f(x)}{g(x)}$.

הסבר כללי:

בעבור ערכי x שמאפסים את המכנה, אבל לא את המונה יש אסימפטוטה אנכית. כאשר ערך x מאפס את המכנה וגם את המונה יש לפרק את המונה והמכנה (על ידי נוסחאות כפל מקוצר או טרינום למשל) ולצמצם. אם אחרי הצמצום אותו ערך של x עדיין מאפס את המכנה תתקבל אסימפטוטה אנכית, אך אם ערך x זה לא מאפס את המכנה אחרי שצומצם אין אסימפטוטה אנכית אלא נקודת אי הגדרה.

אסימפטוטה אופקית:

הגדרה: ישר מהצורה: $y = n$ הוא אסימפטוטה אופקית לפונקציה מהצורה: $y = \frac{f(x)}{g(x)}$

אם מתקיים: $\lim_{x \rightarrow \infty^+} \frac{f(x)}{g(x)} = n$ או: $\lim_{x \rightarrow \infty^-} \frac{f(x)}{g(x)} = n$ או שניהם.

אופן החישוב הכללי:

נתונה הפונקציה $f(x) = \frac{ax^m + \dots}{bx^n + \dots}$ (יש בפונקציה קו שבר אחד!)

- אם $m > n$, לפונקציה אין אסימפטוטה אופקית.
- אם $m = n$, לפונקציה יש אסימפטוטה אופקית שמשוואתה $y = \frac{a}{b}$.
- אם $m < n$, לפונקציה יש אסימפטוטה אופקית שמשוואתה $y = 0$.

חוקי גבולות לאינסוף:

במקרים רבים נרצה לדעת האם פונקציה מסוימת מתכנסת לערך כלשהו כאשר x שואף לערכים ההולכים וגדלים (לאינסוף, או למינוס אינסוף). עבור ערכי x שהולכים וגדלים (או קטנים) נרשום: $x = \infty$ או $x = -\infty$ בהתאמה.

ישנם 4 מצבים בהם ערך הפונקציה בשאיפת x לאחד הקצוות ניתן לחישוב ישיר:

- הגבול: $\lim_{x \rightarrow \infty} \frac{1}{x} = \frac{1}{\infty} = 0$

- הגבול: $\lim_{x \rightarrow 0} \frac{1}{x}$ ניתן לפיצול לשני מקרים:

- אם: $x \rightarrow 0^+$ (מתקרב ל-0 מהכיוון החיובי) אז: $\lim_{x \rightarrow 0^+} \frac{1}{x} = \frac{1}{0^+} = +\infty$

- אם: $x \rightarrow 0^-$ (מתקרב ל-0 מהכיוון השלילי) אז: $\lim_{x \rightarrow 0^-} \frac{1}{x} = \frac{1}{0^-} = -\infty$

- הגבול מהצורה $\infty \cdot \infty$ (מכפלת שני ביטויים של x אשר כל אחד מהם שואף לאינסוף בפני עצמו) מקיים: $\infty \cdot \infty = \infty$

- הגבול מהצורה $\infty + \infty$ (סכום שני ביטויים של x אשר כל אחד מהם שואף לאינסוף בפני עצמו) מקיים: $\infty + \infty = \infty$

ישנם 3 מקרים בהם לא ניתן לדעת מהו ערך הפונקציה בלקיחת הגבול בצורה ישירה והם:

- הגבול מהצורה: $\frac{\infty}{\infty}$ (מנת שני ביטויים שהולכים וגדלים עם שאיפת x).

- הגבול מהצורה: $\frac{0}{0}$ (מנת שני ביטויים שהולכים וקטנים עם שאיפת x).

- הגבול מהצורה: $\infty - \infty$ (הפרש של שני ביטויים שהולכים וגדלים עם שאיפת x). במקרים אלו נעזר בפישוטים שהוצגו לעיל על מנת למצוא את ערך הגבול עצמו.

שאלות:

(4) מצא את האסימפטוטות המקבילות לצירים של הפונקציה: $f(x) = \frac{1}{x-2} + 3$

(5) מצא את האסימפטוטות המקבילות לצירים של הפונקציה: $f(x) = \frac{5x^2+1}{x^2-9}$

(6) מצא את האסימפטוטות המקבילות לצירים של הפונקציה: $f(x) = \frac{2x^2-5x+2}{1+3x^2}$

(7) מצא את האסימפטוטות המקבילות לצירים של הפונקציה: $f(x) = \frac{3x}{x^2-2x-15}$

(8) מצא את האסימפטוטות המקבילות לצירים של הפונקציה: $f(x) = \frac{6x^3-5x+1}{1+2x^2}$

(9) מצא את האסימפטוטות המקבילות לצירים של הפונקציה: $f(x) = \frac{ax+b}{x-b}$

(10) מצא את האסימפטוטות המקבילות לצירים של הפונקציה: $f(x) = \frac{x^2-4}{x^2-3x+2}$
 ואת נקודת אי הרציפות שלה.

(11) מצא את האסימפטוטות המקבילות לצירים של הפונקציה: $f(x) = \frac{x^2}{2x^2-4x}$
 ואת נקודת אי הרציפות שלה.

(12) מצא את האסימפטוטות המקבילות לצירים של הפונקציה: $f(x) = \frac{\sqrt{x-1}}{x^2-4}$

(13) מצא את האסימפטוטות המקבילות לצירים של הפונקציה: $f(x) = \frac{x}{\sqrt{4-x}}$

14) מצא את האסימפטוטות המקבילות לצירים של הפונקציה: $f(x) = \frac{\sqrt{x}}{1-\sqrt{x}}$

15) מצא את האסימפטוטות המקבילות לצירים של הפונקציה: $f(x) = \frac{2x}{x-\sqrt{x}}$

16) מצא את האסימפטוטות המקבילות לצירים של הפונקציה: $f(x) = \frac{3x}{\sqrt{x^2+5}}$

17) מצא את האסימפטוטות המקבילות לצירים של הפונקציה: $f(x) = \frac{5x}{\sqrt{x^2-16}}$

18) נתונה הפונקציה: $f(x) = \frac{4x^2+1}{ax^2-x+b}$

האסימפטוטה האופקית של הפונקציה ואחת האסימפטוטות האנכיות של הפונקציה

נפגשות בנקודה $(-1, 2)$.

מצא את ערכי הפרמטרים a ו- b .

19) נתונה הפונקציה: $f(x) = \frac{ax+8}{x+b\sqrt{x}}$

הפונקציה חותכת את האסימפטוטה האופקית שלה בנקודה $(16, 2)$.

מצא את ערכי הפרמטרים a ו- b .

תשובות סופיות:

(4) $x = 2, y = 3$

(5) $x = \pm 3, y = 5$

(6) $y = \frac{2}{3}$

(7) $x = -3, x = 5, y = 0$

(8) אין.

(9) $x = b, y = a$

(10) נקודת אי-הגדרה: $(2, 4)$, $x = 1, y = 1$

(11) נקודת אי-הגדרה: $(0, 0)$, $x = 2, y = \frac{1}{2}$

(12) $x = 2, y = 0$

(13) $x = 4$

(14) $x = 1, y = -1$

(15) $x = 1, y = 2$

(16) $y = \lim_{x \rightarrow \infty} (f(x)) = 3, y = \lim_{x \rightarrow -\infty} (f(x)) = -3$

(17) $x = 4, x = -4, y = 5, y = -5$

(18) $b = -3, a = 2$

(19) $b = 1, a = 2$

חקירת פונקציה מנה:

שאלות:

(20) נתונה הפונקציה: $f(x) = \frac{6x^2 - 10x + 6}{3x^2 - 10x + 3}$. חקור את הפונקציה לפי הסעיפים הבאים:

- א. מציאת תחום ההגדרה.
- ב. מציאת נקודות הקיצון של הפונקציה.
- ג. כתיבת תחומי העלייה והירידה של הפונקציה.
- ד. מציאת נקודות החיתוך של גרף הפונקציה עם הצירים.
- ה. מציאת אסימפטוטות המקבילות לצירים.
- ו. שרטוט סקיצה של גרף הפונקציה.

(21) נתונה הפונקציה: $f(x) = x + \frac{1}{x}$. חקור את הפונקציה לפי הסעיפים הבאים:

- א. מציאת תחום ההגדרה.
- ב. מציאת נקודות הקיצון של הפונקציה.
- ג. כתיבת תחומי העלייה והירידה של הפונקציה.
- ד. מציאת נקודות החיתוך של גרף הפונקציה עם הצירים.
- ה. שרטוט סקיצה של גרף הפונקציה.

(22) נתונה הפונקציה: $f(x) = \frac{2x+1}{x-3}$. חקור את הפונקציה לפי הסעיפים הבאים:

- א. מציאת תחום ההגדרה.
- ב. מציאת נקודות הקיצון של הפונקציה.
- ג. כתיבת תחומי העלייה והירידה של הפונקציה.
- ד. מציאת נקודות החיתוך של גרף הפונקציה עם הצירים.
- ה. מציאת אסימפטוטות המקבילות לצירים.
- ו. שרטוט סקיצה של גרף הפונקציה.

23) נתונה הפונקציה: $f(x) = \frac{6x}{x^2 - 5x + 4}$. חקור את הפונקציה לפי הסעיפים הבאים:

- א. מציאת תחום ההגדרה.
- ב. מציאת נקודות הקיצון של הפונקציה.
- ג. כתיבת תחומי העלייה והירידה של הפונקציה.
- ד. מציאת נקודות החיתוך של גרף הפונקציה עם הצירים.
- ה. שרטוט סקיצה של גרף הפונקציה.

24) נתונה הפונקציה: $f(x) = \frac{x^2 - 3x}{x^2 + 3}$. חקור את הפונקציה לפי הסעיפים הבאים:

- א. מציאת תחום ההגדרה.
- ב. מציאת נקודות הקיצון של הפונקציה.
- ג. כתיבת תחומי העלייה והירידה של הפונקציה.
- ד. מציאת נקודות החיתוך של גרף הפונקציה עם הצירים.
- ה. שרטוט סקיצה של גרף הפונקציה.

25) נתונה הפונקציה הבאה: $y = \frac{2x^2 - 5x + 2}{4x}$. חקור לפי הסעיפים הבאים:

- א. תחום הגדרה.
- ב. נקודות קיצון.
- ג. קביעת סוג הקיצון ותחומי עלייה וירידה.
- ד. חיתוך עם הצירים.
- ה. מציאת אסימפטוטה אנכית.
- ו. שרטוט סקיצה.

26) נתונה הפונקציה: $f(x) = \frac{x^2 - 5x + 6}{x - 3}$. חקור את הפונקציה לפי הסעיפים הבאים:

- א. מציאת תחום הגדרה.
- ב. מציאת נקודות קיצון של הפונקציה.
- ג. כתיבת תחומי העלייה והירידה של הפונקציה.
- ד. מציאת נקודות החיתוך של גרף הפונקציה עם הצירים.
- ה. מציאת אסימפטוטות המקבילות לצירים.
- ו. שרטוט סקיצה של גרף הפונקציה.

(27) נתונה הפונקציה: $f(x) = \frac{x^2 - 3x + 2}{x^2 - 1}$. חקור את הפונקציה לפי הסעיפים הבאים:

- א. מציאת תחום הגדרה.
- ב. מציאת נקודות קיצון של הפונקציה.
- ג. כתיבת תחומי העלייה והירידה של הפונקציה.
- ד. מציאת נקודות החיתוך של גרף הפונקציה עם הצירים.
- ה. מציאת אסימפטוטות המקבילות לצירים.
- ו. סרטוט סקיצה של גרף הפונקציה.

(28) לגרף הפונקציה: $f(x) = \frac{ax + 4}{x^2}$ יש נקודת קיצון שבה $x = -8$.

- א. מצא את a וכתוב את הפונקציה.
- ב. כתוב את תחומי העלייה והירידה של הפונקציה.
- ג. מצא את נקודות החיתוך של הפונקציה עם הצירים.
- ד. מצא את האסימפטוטות המקבילות לצירים.
- ה. סרטוט סקיצה של גרף הפונקציה.

(29) נתונה הפונקציה: $f(x) = \frac{3x^2}{2x^2 - 8}$.

- א. מהו תחום הגדרה של הפונקציה?
- ב. מצא את נקודות הקיצון של הפונקציה.
- ג. קבע את סוג הקיצון ותחומי העלייה והירידה של הפונקציה.
- ד. מצא את נקודות החיתוך עם הצירים של הפונקציה.
- ה. מצא את האסימפטוטות המקבילות לצירים של הפונקציה.
- ו. סרטוט סקיצה של גרף הפונקציה.

(30) נתונה הפונקציה: $y = \frac{a^2x - 4}{2x^2 - 1}$, $(a$ קבוע).

- ידוע כי שיפוע המשיק לגרף הפונקציה בנקודה שבה: $x = 1$ הוא: $m = 4$.
- א. מצא את כל הערכים האפשריים עבור a .
 - ב. מצא את נקודות החיתוך של גרף הפונקציה עם הצירים.
 - ג. מצא את נקודת החיתוך בין המשיק הנתון ומשיק העובר דרך נקודת החיתוך של גרף הפונקציה עם ציר ה- y .

(31) נתונה הפונקציה הבאה: $f(x) = 1.5x - \frac{5x+1}{x+5}$. חקור לפי הסעיפים הבאים:

- א. תחום הגדרה.
- ב. נקודות קיצון וסוגן.
- ג. תחומי עלייה וירידה.
- ד. חיתוך עם הצירים.
- ה. מציאת אסימפטוטות המקבילות לצירים.
- ו. סרטוט סקיצה.

(32) נתונה הפונקציה: $f(x) = \frac{x-a}{x-1}$, $(a \neq 1)$.

- א. מצא את תחום ההגדרה של הפונקציה.
- ב. מצא את האסימפטוטות של הפונקציה המקבילות לצירים.
- ג. הבע באמצעות a את השיעורים של נקודת החיתוך של גרף הפונקציה עם ציר ה- x ועם ציר ה- y .
- ד. ענה על הסעיפים הבאים:
 - i. מצא עבור אילו ערכים של a הפונקציה $f(x)$ עולה לכל x בתחום ההגדרה.
 - ii. ישר המשיק לגרף הפונקציה $f(x)$ בנקודה שבה $x=a$ מקביל לישר המשיק לגרף הפונקציה בנקודה שבה: $x=2$. מצא את הערך של a אם נתון כי הפונקציה עולה לכל x .

(33) נתונה הפונקציה: $f(x) = \frac{x^2+ax+6}{x-2}$, $(a$ פרמטר).

- ידוע שאחת מנקודות הקיצון של הפונקציה נמצאת על ציר ה- y .
- א. מצא את הערך של a .
 - ב. הצב את הערך של a שמצאת בסעיף א' ומצא:
 - i. את תחום ההגדרה של הפונקציה.
 - ii. את נקודות החיתוך של גרף הפונקציה עם הצירים (אם יש כאלה).
 - iii. את השיעורים של נקודות הקיצון של הפונקציה, וקבע את סוגן.
 - iv. את האסימפטוטות של הפונקציה המקבילות לצירים (אם יש כאלה).
 - ג. עבור אלו ערכי x הפונקציה שלילית?
 - ד. נתון הישר: $y=k$. עבור אלו ערכי k אין נקודות משותפות לישר ולגרף הפונקציה? נמק.

34 נתונה הפונקציה: $y = \frac{x+3}{x-2} + A$, (A פרמטר). גרף הפונקציה עובר בנקודה (A, 3A).

- מצא את ערך הפרמטר A.
 - כתוב את תחום ההגדרה של הפונקציה.
 - הוכח כי גרף הפונקציה יורד לכל x.
 - מצא את נקודת החיתוך של גרף הפונקציה עם ציר ה-y.
 - סרטט סקיצה של גרף הפונקציה.
 - נתון הישר: $y = k$.
- האם קיים ערך של k עבורו הישר חותך את גרף הפונקציה בשתי נקודות שונות? נמק.

35 נתונה הפונקציה: $f(x) = \frac{ax^2 - 20x + 28}{x^2 + 2a}$.

- ידוע כי גרף הפונקציה חותך את האסימפטוטה האופקית שלו בנקודה (3, 0.5).
- מצא את ערך הפרמטר a וכתוב את הפונקציה ואת תחום הגדרתה.
 - מצא את נקודות הקיצון של הפונקציה וקבע את סוגן.
 - כתוב את תחומי העלייה והירידה של הפונקציה.
 - מצא את נקודות החיתוך של גרף הפונקציה עם הצירים.
 - סרטט סקיצה של גרף הפונקציה.
 - העזר בגרף הפונקציה וקבע עבור אלו ערכים של k הישר: $y = k$ יחתוך את גרף הפונקציה בנקודה אחת בלבד.

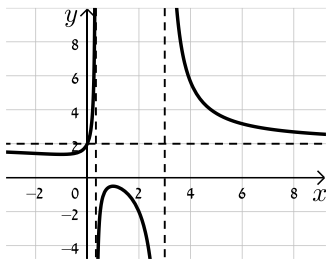
36 ענה על הסעיפים הבאים:

- הוכח כי לגרף הפונקציה: $f(x) = \frac{9-x^2}{x^2-k}$ יש נקודת קיצון שנמצאת על ציר ה-y.
- הוכח כי הפונקציה $f(x)$ מוגדרת לכל x אם ידוע כי שיעור ה-y של נקודת הקיצון הוא 3.
- מצא את נקודות החיתוך של גרף הפונקציה עם ציר ה-x.
- מצא את האסימפטוטה האופקית של הפונקציה.
- סרטט סקיצה של גרף הפונקציה וקבע בכמה נקודות יחתוך אותו הישר $y = -1$. נמק את תשובתך.

תשובות סופיות:

20 א. $x \neq 3, x \neq \frac{1}{3}$ ב. $\min\left(-1, 1\frac{3}{8}\right), \max\left(1, -\frac{1}{2}\right)$

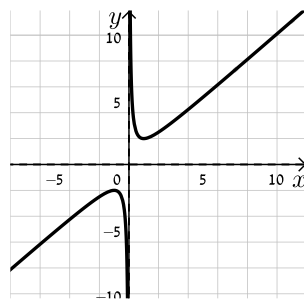
ג. תחומי עלייה: $-1 < x < 1$ וגם $x \neq \frac{1}{3}$, תחומי ירידה: $1 < x \neq 3$ או $x < -1$.



ד. $(0, 2)$ ה. $x = 3, x = \frac{1}{3}, y = 2$ ו. להלן סקיצה:

21 א. $x \neq 0$ ב. $\min(1, 2), \max(-1, -2)$

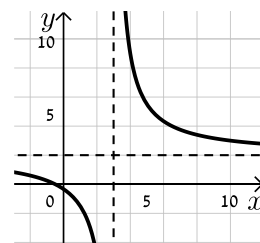
ג. עולה: $x > 1$ או $x < -1$, יורדת: $-1 < x < 1$, $x \neq 0$ ד. אין



ה. להלן סקיצה:

22 א. $x \neq 3$ ב. אין ג. הפונקציה יורדת בכל ת.ה.

ד. $\left(-\frac{1}{2}, 0\right), \left(0, -\frac{1}{3}\right)$ ה. $y = 2, x = 3$



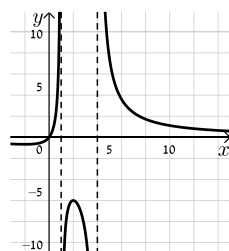
ו. להלן סקיצה:

23 א. $x \neq 1, x \neq 4$ ב. $\min\left(-2, -\frac{2}{3}\right), \max(2, -6)$

ג. תחומי עלייה: $-2 < x < 2$, $x \neq 1$, תחומי ירידה: $x < -2$ או $x > 2$, $x \neq 4$

ד. $(0, 0)$ (אסימפטוטות: $y = 0, x = 1, x = 4$).

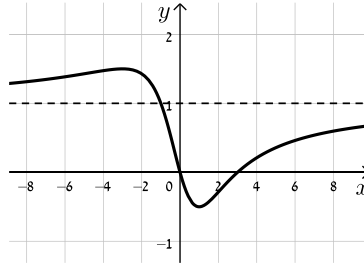
ה. להלן סקיצה:



(24) א. כל x ב. $\min\left(1, -\frac{1}{2}\right), \max\left(-3, 1\frac{1}{2}\right)$

ד. $(0,0), (3,0)$ (אסימפטוטה: $y=1$).

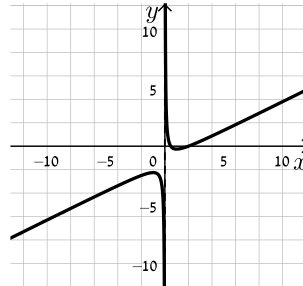
ג. עולה: $x > 1$ או $x < -3$, יורדת: $-3 < x < 1$
ה. להלן סקיצה:



(25) א. $x \neq 0$ ב. $\min(1, -0.25), \max(-1, -2.25)$

ג. עולה: $x > 1, x < -1$, יורדת: $-1 < x < 1$, $x \neq 0$ ד. $(0.5, 0), (2, 0)$ ה. $x=0$

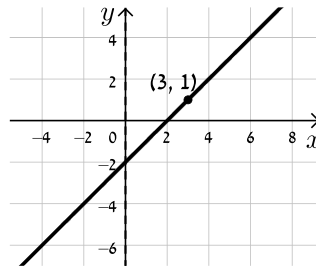
ו. להלן סקיצה:



(26) א. $x \neq 3$ ב. אין ג. הפונקציה עולה בכל תחום הגדרתה

ד. $(0, -2), (2, 0)$ ה. אין, יש נקודת אי הגדרה ששיעוריה $(3, 1)$.

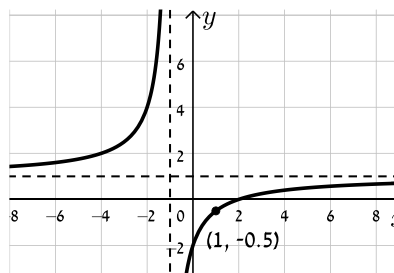
ו. להלן סקיצה:



(27) א. $x \neq \pm 1$ ב. אין ג. הפונקציה עולה בכל תחום הגדרתה

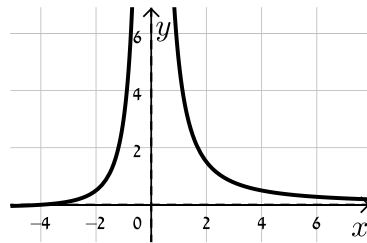
ד. $(0, -2), (2, 0)$ ה. $y=1, x=-1$, יש נקודת אי הגדרה: $\left(1, -\frac{1}{2}\right)$.

ו. להלן סקיצה:



28 א. $f(x) = \frac{x+4}{x^2}$, $a=1$ ב. עולה: $-8 < x < 0$ יורדת: $x < -8, x > 0$

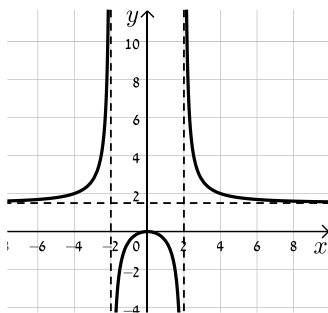
ג. $(-4, 0)$ ד. $x=0, y=0$



ה. להלן סקיצה:

29 א. $x \neq \pm 2$ ב. $\max(0, 0)$ ג. יורדת: $x > 0, x \neq 2$ עולה: $x < 0, x \neq -2$

ד. $(0, 0)$ ה. $x = \pm 2, y = 1.5$ ו. להלן סקיצה:



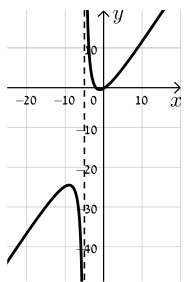
30 א. $a = \pm 2$ ב. $(1, 0), (0, 4)$

ג. המשיק: $y = -4x + 4$ אשר עובר בנקודה $(1, 0)$. נקודת החיתוך: $(1, 0)$.

31 א. $x \neq -5$ ב. $\min(-1, -0.5), \max(-9, -24.5)$

ג. עולה: $x < -9, x > -1$ יורדת: $-9 < x < -1$

ד. $(-2, 0), (\frac{1}{3}, 0), (0, -0.2)$ ה. $x = -5$ ו. להלן סקיצה:



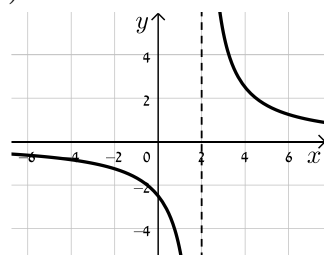
32 א. $x \neq 1$ ב. $x=1, y=1$ ג. $(a, 0), (0, a)$ ד. i. $a > 1$ ii. $a=2$

33 א. $a = -3$ ב. i. $x \neq 2$ ii. $(0, -3)$ iii. $\max(0, -3), \min(4, 5)$

ג. $x < 2$ ד. iv. $x = 2$

34 א. $A = -1$ ב. $x \neq 2$ ד. $(0, -2.5)$

ו. לא



ה. להלן סקיצה:

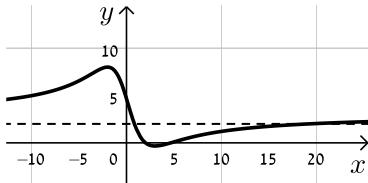
35 א. $f(x) = \frac{3x^2 - 20x + 28}{x^2 + 6}$, $a = 3$. כל x .

ב. $\min\left(3, -\frac{1}{3}\right)$, $\max(-2, 8)$

ד. $(2, 0)$, $\left(0, 4\frac{2}{3}\right)$, $\left(4\frac{2}{3}, 0\right)$

ו. $k = 8$, $-\frac{1}{3}$, 3

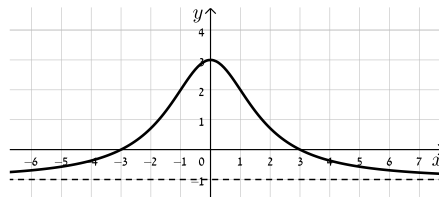
ג. עולה: $x < -2$, $x > 3$, יורדת: $-2 < x < 3$



ה. להלן סקיצה:

ה. באף נקודה.

36 ב. $k = -3$ ג. $(3, 0)$, $(-3, 0)$ ד. $y = -1$



ו. להלן סקיצה:

חקירת פונקציות שורש:

שאלות:

(37) נתונה הפונקציה: $f(x) = \sqrt{x-3}$. חקור את הפונקציה לפי הסעיפים הבאים:

- א. מציאת תחום ההגדרה.
- ב. מציאת נקודות הקיצון של הפונקציה.
- ג. כתיבת תחומי העלייה והירידה של הפונקציה.
- ד. מציאת נקודות החיתוך של גרף הפונקציה עם הצירים.
- ה. מציאת אסימפטוטות המקבילות לצירים.
- ו. שרטוט סקיצה של גרף הפונקציה.

(38) נתונה הפונקציה: $f(x) = (x-4)\sqrt{x-1}$. חקור את הפונקציה לפי הסעיפים הבאים:

- א. מציאת תחום ההגדרה.
- ב. מציאת נקודות הקיצון של הפונקציה.
- ג. כתיבת תחומי העלייה והירידה של הפונקציה.
- ד. מציאת נקודות החיתוך של גרף הפונקציה עם הצירים.
- ה. מציאת אסימפטוטות המקבילות לצירים.
- ו. שרטוט סקיצה של גרף הפונקציה.

(39) נתונה הפונקציה: $f(x) = x\sqrt{6-x}$. חקור את הפונקציה לפי הסעיפים הבאים:

- א. מציאת תחום ההגדרה.
- ב. מציאת נקודות הקיצון של הפונקציה.
- ג. כתיבת תחומי העלייה והירידה של הפונקציה.
- ד. מציאת נקודות החיתוך של גרף הפונקציה עם הצירים.
- ה. שרטוט סקיצה של גרף הפונקציה.

40 נתונה הפונקציה: $f(x) = \frac{4\sqrt{x}}{x^2+3}$. חקור את הפונקציה לפי הסעיפים הבאים:

- מציאת תחום ההגדרה.
- מציאת נקודות הקיצון של הפונקציה.
- כתיבת תחומי העלייה והירידה של הפונקציה.
- מציאת נקודות החיתוך של גרף הפונקציה עם הצירים.
- מציאת אסימפטוטות המקבילות לצירים.
- שרטוט סקיצה של גרף הפונקציה.

41 נתונה הפונקציה: $f(x) = \frac{\sqrt{9-x^2}}{x}$. חקור את הפונקציה לפי הסעיפים הבאים:

- מציאת תחום ההגדרה.
- מציאת נקודות הקיצון של הפונקציה.
- כתיבת תחומי העלייה והירידה של הפונקציה.
- מציאת נקודות החיתוך של גרף הפונקציה עם הצירים.
- מציאת אסימפטוטות המקבילות לצירים.
- שרטוט סקיצה של גרף הפונקציה.

42 נתונה הפונקציה הבאה: $f(x) = \frac{\sqrt{x^2-2x}}{x^2}$.

- מה הוא תחום ההגדרה של הפונקציה?
- מצא את נקודות קיצון של הפונקציה וקבע את סוגן.
- מצא את נקודת החיתוך של גרף הפונקציה עם ציר ה- x .
- שרטט סקיצה של גרף הפונקציה.

43 נתונה הפונקציה הבאה: $f(x) = \frac{x^2-4}{\sqrt{x}}$.

- מצא את נקודת החיתוך של הפונקציה עם ציר ה- x .
- האם ניתן להעביר משיק לגרף הפונקציה המקביל לציר ה- x ? נמק והראה חישוב מתאים.
- כתוב את משוואת המשיק לגרף הפונקציה העובר דרך נקודת החיתוך שלה עם ציר ה- x .
- חשב את שטח המשולש הכלוא בין המשיק והצירים.

(44) נתונה הפונקציה הבאה: $f(x) = \frac{x+3}{\sqrt{x}-1}$.

- מהו תחום הגדרה של הפונקציה?
- כמה נקודות יש לגרף הפונקציה שהמשיק העובר דרכן מקביל לציר ה- x ? מצא אותן.
- כתוב את משוואות המשיקים בנקודות שמצאת בסעיף הקודם.

(45) נתונה הפונקציה: $f(x) = \frac{\sqrt{9-x^2}}{x}$. חקור לפי הסעיפים הבאים:

- מציאת תחום הגדרה.
- מציאת נקודות קיצון של הפונקציה.
- כתיבת תחומי העלייה והירידה של הפונקציה.
- מציאת נקודות החיתוך של גרף הפונקציה עם הצירים.
- מציאת אסימפטוטות המקבילות לצירים.
- סרטוט סקיצה של גרף הפונקציה.

(46) נתונה הפונקציה הבאה: $f(x) = \frac{ax+6}{\sqrt{9-x^2}}$, פרמטר a .

- מעבירים משיק לגרף הפונקציה בנקודת החיתוך שלה עם ציר ה- y . ידוע כי הוא מקביל לישר: $3y-x=0$.
- מצא את ערך הפרמטר a .
 - כתוב את תחום ההגדרה של הפונקציה.
 - מצא את נקודת הקיצון של הפונקציה.
 - כתוב את התחומי העלייה והירידה של הפונקציה.

(47) נתונות שתי הפונקציות הבאות: $f(x) = \frac{x}{\sqrt{x+k}}$, $g(x) = \frac{\sqrt{x-k}}{x}$ (k פרמטר חיובי).

- ידוע כי הפונקציות חותכות זו את זו בנקודה שבה: $x=0.8$.
- מצא את k .
 - האם הפונקציות נחתכות בנקודה נוספת מלבד לנקודה הנתונה? אם כן מצא אותה.
 - מצא את משוואת המשיק לגרף הפונקציה $f(x)$ בנקודה שבה: $x=0.52$.

48 נתונה הפונקציה הבאה: $f(x) = \frac{kx}{\sqrt{k-x^2}}$, פרמטר חיובי.

- א. ענה על הסעיפים הבאים:
- מהו תחום ההגדרה של הפונקציה? (בטא באמצעות k).
 - מהן האסימפטוטות האנכיות של הפונקציה?
- ב. הראה כי הפונקציה עולה עבור כל ערך של k בתחום הגדרתה.
- ג. כתוב את משוואת המשיק לגרף הפונקציה בנקודת החיתוך שלה עם ציר ה- x . (בטא באמצעות k).
- ד. המשיק אשר מצאת בסעיף הקודם חותך את אחת האסימפטוטות של הפונקציה בנקודה A. ידוע כי שטח המשולש הכלוא בין המשיק, ציר ה- x והאסימפטוטה הנ"ל הוא: $S = 4$ יח"ש. מצא את ערך הפרמטר k .

49 נתונה הפונקציה: $f(x) = \frac{x+2}{x+4}$. מגדירים פונקציה נוספת: $g(x) = \sqrt{f(x)}$.

- א. כתוב בצורה מפורשת את הפונקציה $g(x)$.
- ב. לפניך מספר טענות המתייחסות לפונקציות $f(x)$ ו- $g(x)$. קבע אילו מהטענות הבאות נכונות ואלו אינן נכונות. הצדק את קביעותיך באמצעות חישוב מתאים:
- לפונקציות תחום הגדרה זהה.
 - שתי הפונקציות עולות בכל תחום הגדרתן.
 - שתי הפונקציות חותכות את ציר ה- x באותה נקודה.
 - לשתי הפונקציות יש אסימפטוטה משותפת.
- ג. מצא את נקודות החיתוך של כל פונקציה עם ציר ה- y . אסף פתר את סעיפים א' ו-ב' והחליט לטעון את הטענה הבאה:
- היות והפונקציה $g(x)$ מוגדרת להיות: $g(x) = \sqrt{f(x)}$ אזי ניתן למצוא את שיעור ה- y של כל נקודה שעל גרף הפונקציה $f(x)$ ע"י כך שנמצא תחילה את שיעור ה- y של הנקודה בעלת אותו שיעור x על הגרף של $g(x)$ ונעלה אותה בריבוע.
- ד. האם אסף צודק? נמק בצורה איכותית (חישובים אינם נדרשים) את שיקולך.

50) לפניך הפונקציות הבאות: $f(x) = \frac{x}{\sqrt{x-1}}$, $g(x) = \frac{x}{\sqrt{x-1}}$

א. קבע אילו מהטענות הבאות נכונות ואלו אינן נכונות. הצדק את קביעותיך באמצעות חישוב מתאים:

i. לשתי הפונקציות יש את אותו תחום ההגדרה.

ii. לשתי הפונקציות יש נקודות קיצון הנמצאות על הישר: $y = x$.

iii. הפונקציות לא חותכות זו את זו.

מגדירים פונקציה נוספת והיא: $h(x) = (g(x))^2$.

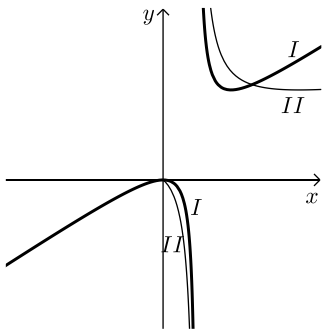
ב. כתוב באופן מפורש את הפונקציה החדשה: $h(x)$.

ג. האם תחום ההגדרה של הפונקציה $h(x)$ זהה לשל $g(x)$?

ד. באיור הסמוך ישנם שני גרפים.

קבע על סמך הסעיפים הקודמים איזו פונקציה כל גרף

מתאר מבין הפונקציות: $f(x)$, $g(x)$, $h(x)$. נמק את בחירותיך.



51) לפניך שלוש פונקציות: $f(x) = x^2\sqrt{k-x^2}$, $g(x) = \frac{x^2}{\sqrt{k-x^2}}$, $h(x) = \frac{\sqrt{k-x^2}}{x^2}$ ($k > 0$).

א. קבע אילו מהטענות הבאות נכונות ואלו אינן נכונות. הצדק את קביעותיך באמצעות חישוב מתאים:

i. לפונקציות $f(x)$ ו- $g(x)$ תחום הגדרה זהה, השונה מתחום ההגדרה של $h(x)$.

ii. קיימת פונקציה אשר אינה חותכת את ציר ה- x כלל.

iii. הפונקציות: $h(x)$ ו- $g(x)$ הפוכות זו מזו בתחומי העלייה והירידה שלהן

(כאשר אחת עולה השנייה יורדת).

iv. לפונקציה: $f(x)$ יש נקודת קיצון אחת בלבד.

מסמנים נקודה $A(0, \sqrt{12})$ על ציר ה- y . ידוע כי מרחקה מאחת מנקודות החיתוך

של גרף הפונקציה $f(x)$ עם ציר ה- x שאינה בראשית הוא: $d = 6$.

ב. מצא את k .

ג. מצא את נקודות הקיצון של גרף

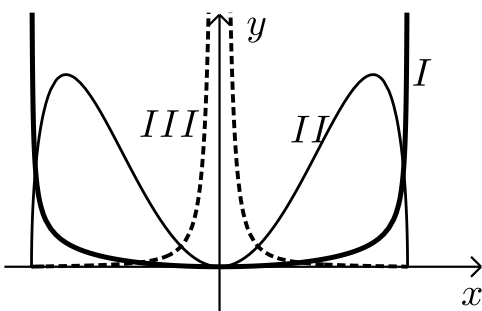
הפונקציה $f(x)$ וקבע את סוגן.

ד. לפניך איור ובו מסורטטות הסקיצות של

שלושת הפונקציות.

קבע עפ"י הסעיפים הקודמים איזה גרף

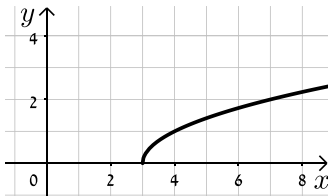
שייך לכל פונקציה.



תשובות סופיות:

(37) א. $x \geq 3$ ב. $\min(3,0)$ קצה ג. הפונקציה עולה בכל ת.ה.

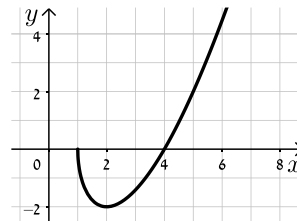
ד. $(3,0)$ ה. אין. ו. להלן סקיצה:



(38) א. $x \geq 1$ ב. $\max(1,0)$, $\min(2,-2)$ קצה

ג. עולה: $x > 2$, יורדת: $1 < x < 2$ ד. $(1,0)$, $(4,0)$ ה. אין.

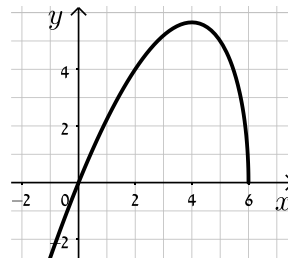
ו. להלן סקיצה:



(39) א. $x \leq 6$ ב. $\min(6,0)$, $\max(4,4\sqrt{2})$ קצה

ג. עלייה: $x < 4$, ירידה: $4 < x < 6$ ד. $(6,0)$, $(0,0)$

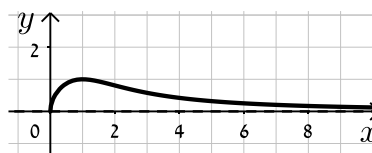
ה. להלן סקיצה:



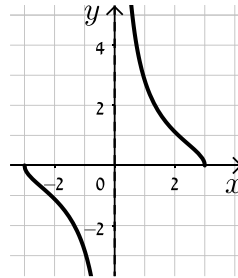
(40) א. $x \geq 0$ ב. $\min(0,0)$, $\max(1,1)$ קצה

ג. עולה: $0 < x < 1$, יורדת: $x > 1$ ד. $(0,0)$ ה. $y = 0$.

ו. להלן סקיצה:

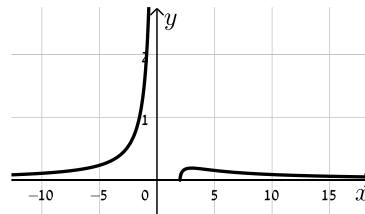


- (41)** א. $-3 \leq x \leq 3$ וגם $x \neq 0$ ב. $\max(-3,0)$ קצה, $\min(3,0)$ קצה
 ג. עולה: אף x , יורדת: $-3 \leq x \leq 3$, $x \neq 0$ ד. $(-3,0), (3,0)$



ה. $x=0$. ו. להלן סקיצה:

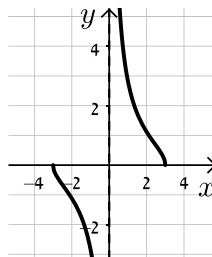
- (42)** א. $x < 0, x \geq 2$ ב. $\min(2,0), \max\left(3, \frac{1}{\sqrt{27}}\right)$ ג. $(2,0)$ ד. להלן סקיצה:



- (43)** א. $(2,0)$ ב. לא ג. $y = 2\sqrt{2}x - 4\sqrt{2}$ ד. $S = 4\sqrt{2}$

- (44)** א. $x \neq 1, x \geq 0$ ב. $(9,6)$ ג. $y = 6$

- (45)** א. $-3 \leq x \leq 3$ וגם $x \neq 0$ ב. $\max(-3,0)$ קצה, $\min(3,0)$ קצה
 ג. עולה: אף x , יורדת: $-3 \leq x \leq 3$ וגם $x \neq 0$ ד. $(-3,0), (3,0)$



ה. $x=0$. ו. להלן סקיצה:

- (46)** א. $a=1$ ב. $-3 < x < 3$ ג. $(-1.5, \sqrt{3})$ ד. יורדת: $-3 < x < -1.5$, עולה: $-1.5 < x < 3$

- (47)** א. $k=0.48$ ב. כן, $(0.6, 0.57)$ ג. $y = 0.74x + 0.1352$

- (48)** א. i. $-\sqrt{k} < x < \sqrt{k}$ ii. $x = \pm\sqrt{k}$ ב. $f'(x) = \frac{k^2}{(k-x^2)^{1.5}} > 0$ ג. $y = \sqrt{k}x$ ד. $k=4$

$$g(x) = \sqrt{\frac{x+2}{x+4}} \quad \text{א. (49)}$$

ב. i. לא נכון ii. נכון

$$f(x) : \left(0, \frac{1}{2}\right), g(x) : \left(0, \frac{1}{\sqrt{2}}\right) \quad \text{ג.}$$

iii. נכון iv. נכון

ד. אסף צודק.

$$h(x) = \frac{x^2}{x-1} \quad \text{ב.}$$

iii. נכון

א. i. לא נכון ii. נכון (50)

$$\text{I} = h(x), \text{II} = f(x) \quad \text{ד.}$$

$$h(x) : x \neq 1, \text{ג.}$$

iv. נכון

iii. נכון

ii. לא נכון

i. לא נכון (51)

$$\text{ב. } k = 24 \quad \text{ג. } \min(0,0), \max(\pm 4, 32\sqrt{2})$$

$$\text{ד. } \text{I} = g(x), \text{II} = f(x), \text{III} = h(x)$$

תחומי קעירות ונקודות פיתול:

סיכום כללי:

תחומי קעירות – הגדרה:

- פונקציה $f(x)$ קעורה כלפי מטה (קמורה) בתחום $[x_0, x_1]$ אם לכל x בתחום הנ"ל המשיק לפונקציה נמצא מעל לגרף הפונקציה.
כדי למצוא תחומי קעירות כלפי מטה יש למצוא תחום שבו: $f''(x) < 0$.
- פונקציה $f(x)$ קעורה כלפי מעלה (קעורה) בתחום $[x_0, x_1]$ אם לכל x בתחום הנ"ל המשיק לפונקציה נמצא מתחת לגרף הפונקציה.
כדי למצוא תחומי קעירות כלפי מעלה יש למצוא תחום שבו: $f''(x) > 0$.

נקודת פיתול – הגדרות:

- נקודת פיתול היא נקודה שבה הפונקציה עוברת מתחום קעירות כלפי מטה לקעירות כלפי מעלה ולהיפך.
- נקודת פיתול מקיימת: $f''(x) = 0$ כאשר ערך הנגזרת השנייה משנה את סימנו בתחום שלפני ואחרי הנקודה המאפסת אותו.
- בנקודת פיתול המשיק לגרף הפונקציה חותך אותה ולא רק משיק לה מכיוון אחד.

שאלות:

(52) מצא את נקודות הפיתול ואת תחומי הקעירות של הפונקציה: $f(x) = x^4 - 6x^3 + 12x^2$.

(53) מצא את נקודות הפיתול ואת תחומי הקעירות של הפונקציה: $f(x) = \frac{3x-2}{x^2}$.

(54) מצא את נקודות הקיצון והפיתול של הפונקציה: $f(x) = \frac{2x}{\sqrt{x-1}}$.

(55) מצא את נקודות הקיצון והפיתול של הפונקציה: $f(x) = x(x-2)^3$.

56 נתונה הפונקציה: $f(x) = \frac{a}{x^2 + b}$, a, b פרמטרים.

הנקודה $(-1, 1)$ היא נקודת פיתול של הפונקציה.
מצא את ערכי הפרמטרים a, b .

57 נתונה הפונקציה: $f(x) = \frac{1}{x} - \frac{1}{x^2} + 2$. חקור את הפונקציה לפי הסעיפים הבאים:

- א. מציאת תחום הגדרה.
- ב. מציאת נקודות קיצון של הפונקציה.
- ג. כתיבת תחומי העלייה והירידה של הפונקציה.
- ד. מציאת נקודות החיתוך של גרף הפונקציה עם הצירים.
- ה. מציאת אסימפטוטות המקבילות לצירים.
- ו. מציאת נקודות פיתול.
- ז. מציאת תחומי הקעירות כלפי מעלה ומטה.
- ח. סרטוט סקיצה של גרף הפונקציה.

58 נתונה הפונקציה: $f(x) = \frac{2x}{x - \sqrt{x}}$. חקור את הפונקציה לפי הסעיפים הבאים:

- א. מציאת תחום הגדרה.
- ב. מציאת נקודות קיצון של הפונקציה.
- ג. כתיבת תחומי העלייה והירידה של הפונקציה.
- ד. מציאת נקודות החיתוך של גרף הפונקציה עם הצירים.
- ה. מציאת אסימפטוטות המקבילות לצירים.
- ו. מציאת נקודות פיתול.
- ז. מציאת תחומי הקעירות כלפי מעלה ומטה.
- ח. סרטוט סקיצה של גרף הפונקציה.

59) חקור את הפונקציות הבאות לפי הסעיפים הבאים :

- i. מציאת תחום הגדרה.
- ii. מציאת נקודות חיתוך עם הצירים.
- iii. מציאת נקודות קיצון וקביעת סוגן.
- iv. מציאת תחומי העלייה והירידה של הפונקציה.
- v. מציאת אסימפטוטות המקבילות לצירים.
- vi. מציאת נקודות הפיתול של הפונקציה.
- vii. מציאת תחומי הקעירות של הפונקציה.
- viii. סרטוט סקיצה של גרף הפונקציה.

$$f(x) = \frac{2x^2}{(x+1)^2} \quad \text{ב.} \qquad f(x) = \frac{x-1}{x^2} \quad \text{א.}$$

$$f(x) = \frac{x^3}{(x+1)^2} \quad \text{ד.} \qquad f(x) = \frac{x^3}{x^2-4} \quad \text{ג.}$$

$$f(x) = \frac{x^2-1}{(x-2)(x-5)} \quad \text{ו.} \qquad f(x) = \left(\frac{x+1}{x-1}\right)^3 \quad \text{ה.}$$

$$f(x) = \frac{x^3-x^2}{x^2-1} \quad \text{ח.} \qquad f(x) = \frac{x^2-4x+3}{x^2-4} \quad \text{ז.}$$

הערה: בסעיפים ו ו-ז יש לבצע חקירה ללא סעיפים vi ו-vii.

תשובות סופיות:

52 (1,7), (2,16) , קעירות כלפי מעלה : $x > 2$ או $x < 1$, קעירות כלפי מטה : $1 < x < 2$.

53 (2,1) , קעירות כלפי מעלה : $x > 2$, קעירות כלפי מטה : $0 \neq x < 2$.

54 קיצון: $\min(2,4)$, פיתול: $\left(4, \frac{8}{\sqrt{3}}\right)$.

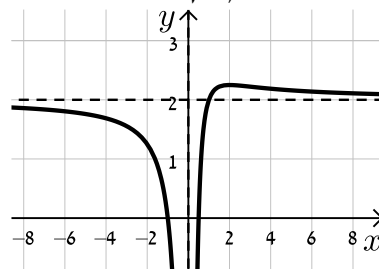
55 קיצון: $\min\left(\frac{1}{2}, -\frac{27}{16}\right)$, פיתול: (1,-1), (2,0) .

56 $a = 4, b = 3$.

57 א. $x \neq 0$. ב. $\max\left(2, 2\frac{1}{4}\right)$. ג. עולה: $0 < x < 2$; יורדת: $x > 2, x < 0$.

ד. $\left(\frac{1}{2}, 0\right), (-1, 0)$. ה. $x = 0, y = 2$. ו. $\left(3, 2\frac{2}{9}\right)$.

ז. קעירות כלפי מעלה: $x > 3$, קעירות כלפי מטה : $0 \neq x < 3$.

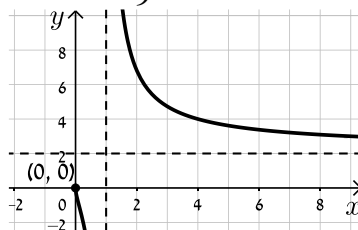


ח. להלן סקיצה :

58 א. $1 \neq x > 0$. ב. אין . ג. יורדת בכל תחום הגדרתה .

ד. אין . ה. $x = 1, y = 2$ נקודת אי הגדרה: (0,0) . ו. $\left(\frac{1}{9}, -1\right)$.

ז. קעירות כלפי מעלה: $x > 1$ או $0 < x < \frac{1}{9}$, קעירות כלפי מטה : $\frac{1}{9} < x < 1$.



ח. להלן סקיצה :

59 א. i. $x \neq 0$. ii. (1,0) . iii. $x = 0, y = 0$. iv. $\max(2, 0.25)$.

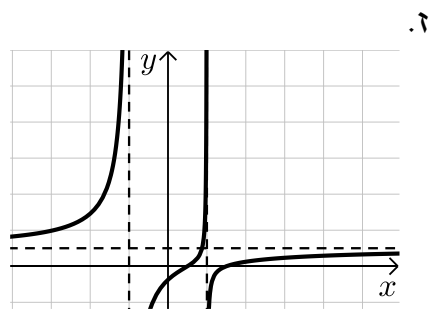
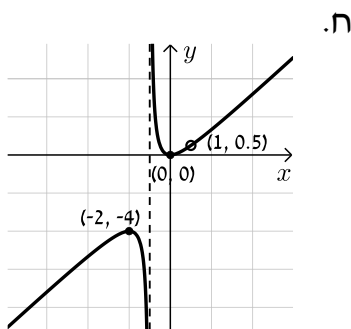
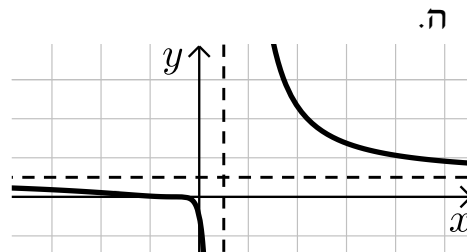
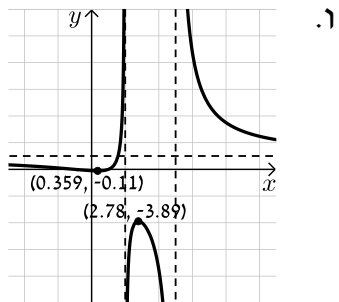
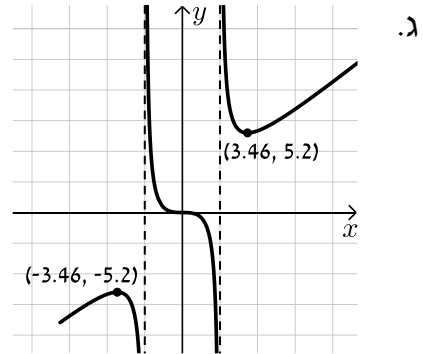
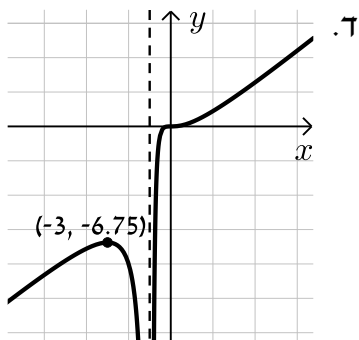
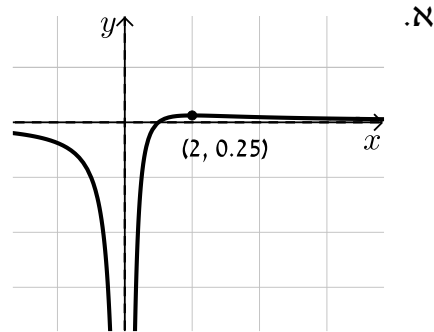
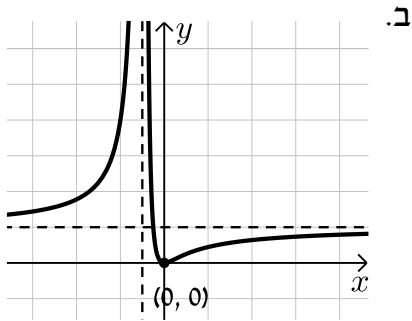
v. עולה: $0 < x < 2$, יורדת: $x < 0, x > 2$. vi. $\left(3, \frac{2}{9}\right)$.

vii. קעורה כלפי מעלה: $x > 3$, קעורה כלפי מטה : $0 < x < 3, x < 0$.

ב. i. $x \neq -1$. ii. (0,0) . iii. $x = -1, y = 2$. iv. $\min(0,0)$.

- v. עולה: $x < -1$, $x > 0$, יורדת: $-1 < x < 0$.vi $\left(\frac{1}{2}, \frac{2}{9}\right)$
- vii. קעורה כלפי מעלה: $-1 < x < \frac{1}{2}$, קעורה כלפי מטה: $x < -1$, $x < \frac{1}{2}$
- ג. i. $x \neq \pm 2$.ii $(0,0)$.iii $x = \pm 2$
- iv. $\min(\sqrt{12}, 5.2)$, $\max(-\sqrt{12}, -5.2)$
- v. עולה: $x > \sqrt{12}$, $x < -\sqrt{12}$, יורדת: $2 < x < \sqrt{12}$, $-2 < x < 2$, $-\sqrt{12} < x < -2$.vi $(0,0)$
- vii. קעורה כלפי מעלה: $x > 2$, $-2 < x < 0$, קעורה כלפי מטה: $0 < x < 2$, $x < -2$
- ד. i. $x \neq -1$.ii $(0,0)$.iii $x = -1$.iv $\max(-3, -6.75)$
- v. עולה: $x > -1$, $x < -3$, יורדת: $-3 < x < -1$.vi $(0,0)$
- vii. קעורה כלפי מעלה: $x > 0$, קעורה כלפי מטה: $-1 < x < 0$, $x < -1$
- ה. i. $x \neq 1$.ii $(-1,0), (0,-1)$.iii $x = 1, y = 1$.iv אין
- v. יורדת בכל ת.ה. .vi $\left(-3, \frac{1}{8}\right), (-1,0)$
- vii. קעורה כלפי מעלה: $-3 < x < -1$, $x > 1$, קעורה כלפי מטה: $-1 < x < 1$, $x < -3$
- ו. i. $x \neq 2, 5$.ii $(0,-0.1), (-1,0), (1,0)$.iii $x = 2, x = 5, y = 1$
- iv. $\min(0.359, -0.11)$, $\max(2.78, -3.89)$
- v. עולה: $2 < x < 2.78$, $0.359 < x < 2$, יורדת: $x > 5$, $2.78 < x < 5$, $x < 0.359$
- ז. i. $x \neq \pm 2$.ii $(3,0), (1,0), (0,-0.75)$.iii $x = \pm 2, y = 1$
- iv. אין .v יורדת בכל ת.ה.
- ח. i. $x \neq \pm 1$.ii $(0,0)$.iii $x = -1$.iv $\min(0,0)$, $\max(-2,-4)$
- v. עולה: $x > 0$, $x < -2$, $x \neq 1$, יורדת: $-1 < x < 0$, $-2 < x < -1$
- vi. אין .vii קעורה כלפי מעלה: $x > -1$, $x \neq 1$, קעורה כלפי מטה: $x < -1$

סקיצות:



חקירת פונקציה עם פרמטר:

סיכום כללי:

סיווג נקודות קיצון באמצעות y'' :

אם הנקודה $A(x_1, y_1)$ היא נקודת קיצון אז :

- אם $f''(x_1) > 0$ הנקודה $A(x_1, y_1)$ היא נקודת מינימום.
- אם $f''(x_1) < 0$ הנקודה $A(x_1, y_1)$ היא נקודת מקסימום.

שאלות:

(1) מצא וסווג את נקודות הקיצון של הפונקציה: $f(x) = x^3 - 12x$.

(2) מצא וסווג את נקודות הקיצון של הפונקציה: $f(x) = x^2 - 6x - 16$.

(3) מצא וסווג את נקודות הקיצון של הפונקציה: $f(x) = x^3 - 3b^2x$, $b > 0$, פרמטר. שרטט סקיצה של גרף הפונקציה.

(4) נתונה הפונקציה: $f(x) = \frac{2x}{a^2 + x^2}$ ($a > 0$). חקור לפי הסעיפים הבאים:

- א. מציאת תחום ההגדרה.
- ב. מציאת נקודות קיצון של הפונקציה.
- ג. כתיבת תחומי העלייה והירידה של הפונקציה.
- ד. מציאת נקודות החיתוך של גרף הפונקציה עם הצירים.
- ה. מציאת אסימפטוטות המקבילות לצירים.
- ו. שרטוט סקיצה של גרף הפונקציה.

(5) נתונה הפונקציה: $f(x) = \frac{1-x^2}{(x-b)^2}$, $(b > 1)$. חקור לפי הסעיפים הבאים:

- א. מציאת תחום ההגדרה.
- ב. מציאת נקודות קיצון של הפונקציה.
- ג. כתיבת תחומי העלייה והירידה של הפונקציה.
- ד. מציאת נקודות החיתוך של גרף הפונקציה עם הצירים.
- ה. מציאת אסימפטוטות המקבילות לצירים.
- ו. שרטוט סקיצה של גרף הפונקציה.

(6) נתונה הפונקציה: $f(x) = 4x\sqrt{b^2 - x^2}$, $(b > 0)$.

חקור לפי הסעיפים הבאים:

- א. מציאת תחום ההגדרה.
- ב. מציאת נקודות קיצון של הפונקציה.
- ג. כתיבת תחומי העלייה והירידה של הפונקציה.
- ד. מציאת נקודות החיתוך של גרף הפונקציה עם הצירים.
- ה. שרטוט סקיצה של גרף הפונקציה.

(7) נתונה הפונקציה: $f(x) = \frac{x^2 - m}{ax - 4}$, a, m פרמטרים קבועים כאשר: $a > 0$.

ידוע כי אחת מנקודות הקיצון של הפונקציה נמצאת על ציר ה- y .

- א. מצא את הערך של הפרמטר m .
- ב. הצב את הערך של m שמצאת בסעיף א' והבא באמצעות a את:
 - i. תחום ההגדרה של הפונקציה.
 - ii. נקודות הקיצון של הפונקציה וקבע את סוגן.
 - iii. האסימפטוטות לגרף הפונקציה המקבילות לצירים.
- ג. סרטט סקיצה וסמן בה את נקודות הקיצון ואת משוואות האסימפטוטות שהבעת באמצעות a בסעיף הקודם.
- ד. ידוע כי נקודת הקיצון שאינה על ציר ה- y נמצאת במרחקים שווים מהצירים. מצא את הערך של הפרמטר a .
- ה. נתון הישר: $y = k$. מצא עבור אילו ערכים של k אין לישר ולגרף הפונקציה נקודות משותפות כלל.

תשובות סופיות:

(1) $\min(2, -16)$, $\max(-2, 16)$

(2) $\min(3, -25)$

(3) $\min(b, -2b^3)$, $\max(-b, 2b^3)$

(4) א. כל x ב. $\max\left(a, \frac{1}{a}\right)$, $\min\left(-a, -\frac{1}{a}\right)$

ג. עולה: $-a < x < a$ יורדת: $x < -a$, $x > a$

ד. $(0, 0)$ ה. אסימפטוטה אופקית: $y = 0$

(5) א. $x \neq b$ ב. $\max\left(\frac{1}{b}, \frac{1}{b^2 - 1}\right)$ ג. עולה: $x > b$, $x < \frac{1}{b}$ יורדת: $\frac{1}{b} < x < b$

ד. $\left(0, \frac{1}{b^2}\right)$, $(-1, 0)$, $(1, 0)$ ה. $x = b$, $y = -1$

(6) א. $-b \leq x \leq b$ ב. $\min\left(-\frac{b}{\sqrt{2}}, -2b^2\right)$, $\max\left(\frac{b}{\sqrt{2}}, 2b^2\right)$, $\min(-b, 0)$ קצה,

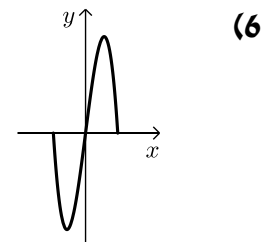
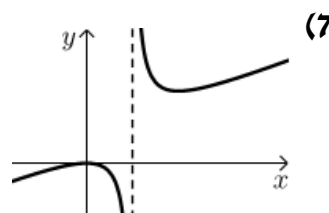
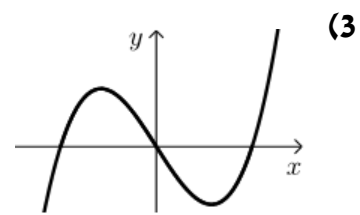
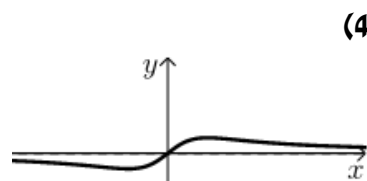
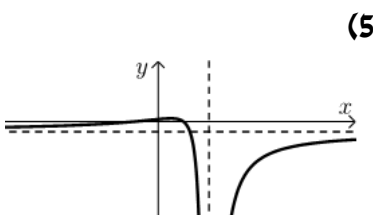
$\min(b, 0)$ קצה. ג. עולה: $-\frac{b}{\sqrt{2}} < x < \frac{b}{\sqrt{2}}$, יורדת: $\frac{b}{\sqrt{2}} < x < b$, $-b < x < -\frac{b}{\sqrt{2}}$

ד. $(b, 0)$, $(-b, 0)$, $(0, 0)$

(7) א. $m = 0$ ב. $x \neq \frac{4}{a}$ ב. ii. $\max(0, 0)$, $\min\left(\frac{8}{a}, \frac{16}{a^2}\right)$

ב. iii. $x = \frac{4}{a}$ ד. $a = 2$ ה. $0 < k < 4$

סקיצות לשאלות:



מכינה במתמטיקה להנדסת מכונות

פרק 34 - חשבון דיפרנציאלי - הקשר שבין גרף הפונקציה וגרף הנגזרת

תוכן העניינים

1. כללי (ללא ספר)

מכינה במתמטיקה להנדסת מכונות

פרק 35 - חשבון דיפרנציאלי - חקירת פונקציות טריגונומטריות

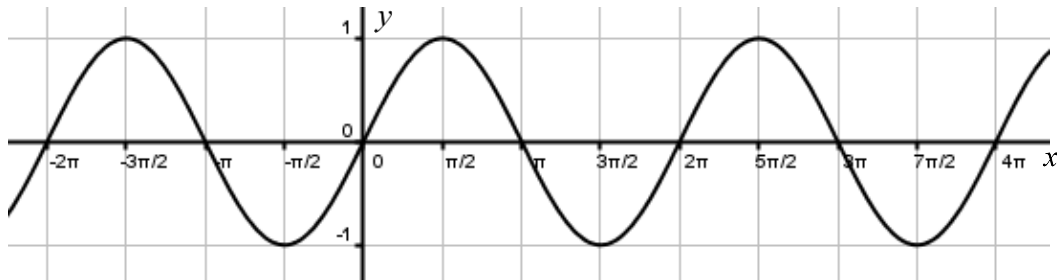
תוכן העניינים

1. הגדרות כלליות 586
2. גזירה של פונקציות טריגונומטריות 588
3. שאלות עם משיקים 590
4. מציאת תחום ההגדרה של פונקציות טריגונומטריות 592
5. מציאת נקודות קיצון 593
6. מציאת אסימפטוטות המקבילות לצירים 594
7. מציאת נקודות פיתול ותחומי קעירות 595
8. חקירת פונקציה טריגונומטרית 596

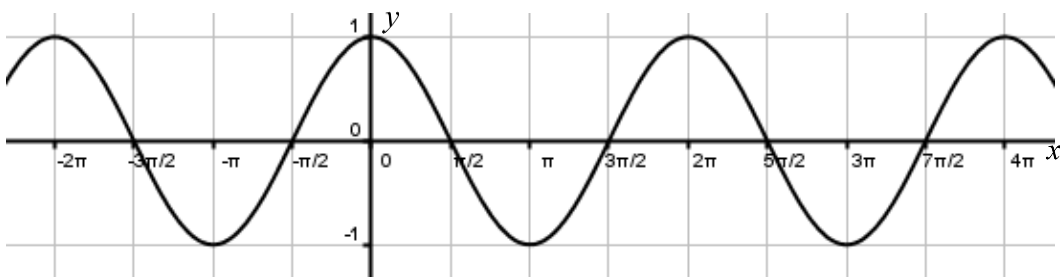
הגדרות כלליות:

סיכום כללי:

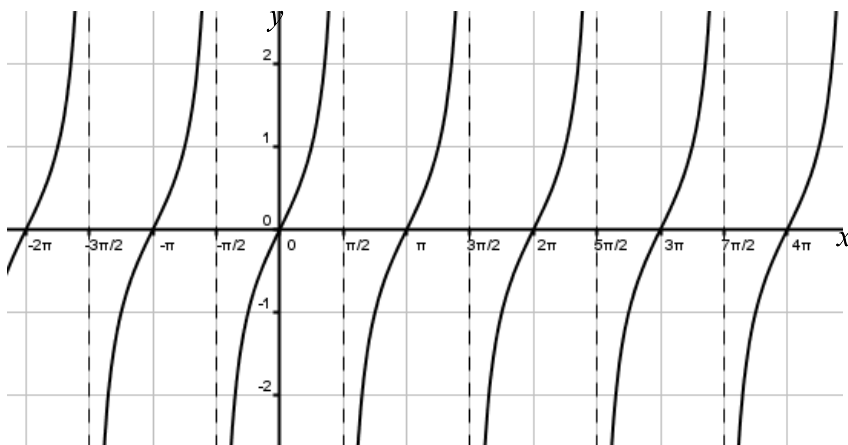
תיאור גרפי של פונקציית הסינוס $y = \sin x$:



תיאור גרפי של פונקציית הקוסינוס $y = \cos x$:



תיאור גרפי של פונקציית הטנגנס $y = \tan x$:



הנגזרות הטריגונומטריות היסודיות:

הנגזרת	הפונקציה
$y' = \cos x$	$y = \sin x$
$y' = -\sin x$	$y = \cos x$
$y' = \frac{1}{\cos^2 x}$	$y = \tan x$
$y' = -\frac{1}{\sin^2 x}$	$y = \cot x$

זוגיות של פונקציות:

- פונקציה $f(x)$ תקרא זוגית אם היא מקיימת את התכונה הבאה: $f(x) = f(-x)$.
- פונקציה $f(x)$ תקרא אי-זוגית אם היא מקיימת את התכונה הבאה: $f(x) = -f(-x)$.
- פונקציה אשר אינה מקיימת אף אחת מהתכונות הנ"ל אינה זוגית ואינה אי-זוגית.

מחזוריות של פונקציות:

(1) פונקציה $f(x)$ תיקרא מחזורית במחזור T אם היא מקיימת: $f(x+T) = f(x)$ לכל x בתחום הגדרתה.

(2) מחזור של פונקציות טריגונומטריות:

- הפונקציה $f(x) = \sin x$ מחזורית במחזור $T = 2\pi$ שכן: $\sin(x+2\pi) = \sin x$.
- הפונקציה $f(x) = \cos x$ מחזורית במחזור $T = 2\pi$ שכן: $\cos(x+2\pi) = \cos x$.
- הפונקציה $f(x) = \tan x$ מחזורית במחזור $T = \pi$ שכן: $\tan(x+\pi) = \tan x$.
- הפונקציה $f(x) = \cot x$ מחזורית במחזור $T = \pi$ שכן: $\cot(x+\pi) = \cot x$.

גזירה של פונקציות טריגונומטריות:

שאלות:

(1) גזור את הפונקציות הבאות:

א. $f(x) = \sin x + 3 \cos x + x$

ב. $f(x) = 2x \sin x + 4 \tan x$

ג. $f(x) = \frac{\sin x}{1 + \sin x}$

(2) גזור את הפונקציות הבאות:

א. $f(x) = \sin 3x + 2 \cos 5x$

ב. $f(x) = \frac{\cos 2x}{1 + \sin 2x}$

(3) גזור את הפונקציות הבאות:

א. $f(x) = \sin^3 x$

ב. $f(x) = 2 \cos^4 x$

ג. $f(x) = \sin^2 x$

ד. $f(x) = \sin^3 2x$

ה. $f(x) = \cos^2 2x$

ו. $f(x) = \tan^2 4x$

(4) גזור את הפונקציות הבאות:

א. $f(x) = \sqrt{\sin 3x}$

ב. $f(x) = \frac{\sin 2x}{\sqrt{\cos 2x}}$

(5) גזור את הפונקציות הבאות:

א. $f(x) = \sin^2 x - \cos^2 x$

ב. $f(x) = \sin^4 2x - \cos^4 2x$

ג. $f(x) = \sin^4 x + \cos^4 x$

תשובות סופיות:

$$\frac{\cos x}{(1 + \sin x)^2} \cdot \lambda \quad 2 \sin x + 2x \cos x + \frac{4}{\cos^2 x} \cdot \beta \quad \cos x - 3 \sin x + 1 \cdot \aleph \quad (1)$$

$$\cdot -\frac{2}{1 + \sin 2x} \cdot \beta \quad 3 \cos 3x - 10 \sin 5x \cdot \aleph \quad (2)$$

$$\sin 2x \cdot \lambda \quad -8 \cos^3 x \sin x \cdot \beta \quad 3 \sin^2 x \cdot \cos x \cdot \aleph \quad (3)$$

$$\cdot \frac{8 \tan 4x}{\cos^2 4x} \cdot \lambda \quad -2 \sin 4x \cdot \eta \quad 6 \sin^2 2x \cos 2x \cdot \delta$$

$$\cdot \frac{\cos^2 2x + 1}{\cos 2x \sqrt{\cos 2x}} \cdot \beta \quad \frac{3 \cos 3x}{2 \sqrt{\sin 3x}} \cdot \aleph \quad (4)$$

$$\cdot -\sin 4x \cdot \lambda \quad 4 \sin 4x \cdot \beta \quad 2 \sin 2x \cdot \aleph \quad (5)$$

שאלות עם משיקים:

שאלות:

(6) מצא את משוואת המשיק לפונקציה: $f(x) = \cos x$ בנקודה $A\left(\frac{\pi}{6}, \frac{\sqrt{3}}{2}\right)$.

(7) מצא את משוואת המשיק לפונקציה: $f(x) = \sin 2x$ בנקודה שבה $x = \frac{\pi}{2}$.

(8) מצא את משוואת המשיק לפונקציה: $f(x) = \tan 3x$ בנקודה שבה $x = \frac{\pi}{9}$.

(9) מצא את משוואות המשיקים לפונקציה: $f(x) = 4\sin^2 x$ בנקודות החיתוך של הפונקציה עם הישר $y = 1$ בתחום $[0, \pi]$.

(10) שיפוע המשיק לפונקציה: $f(x) = \sqrt{\sin x + a}$, a (פרמטר) בנקודה שבה $y = 1$

בתחום $\left[0, \frac{\pi}{2}\right]$ הוא $\frac{\sqrt{3}}{4}$.

מצא את ערך הפרמטר a .

(11) נתונה הפונקציה: $f(x) = a\sin^2 x - 5\sin x + ax$, a (פרמטר) בתחום: $0 \leq x \leq \pi$.

ידוע כי הישר: $y = ax - 2$ חותך את גרף הפונקציה בנקודה שבה $x = \frac{\pi}{6}$.

א. מצא את a וכתוב את הפונקציה $f(x)$.

ב. מצא נקודה על גרף הפונקציה בתחום הנתון שבה שיפוע המשיק הוא: $m = 2$.

ג. האם קיימות נקודות נוספות בתחום הנתון ששיפוע המשיק דרכן הוא 2? נמק את תשובתך.

ד. כתוב את משוואת המשיק העובר דרך הנקודה שמצאת.

(12) נתונות הפונקציות הבאות: $f(x) = x^2 + \cos^2 x$, $g(x) = x^2 + \sin^2 x$.

א. הוכח כי ההפרש: $f(x) - g(x)$ שווה ל- $\cos 2x$.

ב. מצא את נקודות החיתוך של הפונקציות בתחום: $-\pi < x < \pi$.

ג. ישר $x = t$, $(0 < t < 1)$ חותך את הגרפים בנקודות A ו-B ומהן מעבירים משיקים

לפונקציות. ידוע כי ההפרש בין שיפוע המשיק של גרף הפונקציה $g(x)$ לשיפוע

המשיק של גרף הפונקציה $f(x)$ הוא 1.

מצא את כל הערכים האפשריים עבור t .

תשובות סופיות:

$$y = -\frac{1}{2}x + \frac{\pi}{12} + \frac{\sqrt{3}}{2} \quad (6)$$

$$y = -2x + \pi \quad (7)$$

$$y = 12x - \frac{4\pi}{3} + \sqrt{3} \quad (8)$$

$$y = 2\sqrt{3}x - \frac{\pi\sqrt{3}}{3} + 1, y = -2\sqrt{3}x + \frac{5\pi\sqrt{3}}{3} + 1 \quad (9)$$

$$a = \frac{1}{2} \quad (10)$$

$$f(x) = 2\sin^2 x - 5\sin x + 2x, a = 2. \text{ א. } \left(\frac{\pi}{2}, \pi - 3\right). \text{ ב. } \left(\frac{\pi}{2}, \pi - 3\right). \text{ ג. לא. } \tau. y = 2x - 3. \quad (11)$$

$$\left(-\frac{3\pi}{4}, 6.05\right), \left(-\frac{\pi}{4}, 1.11\right), \left(\frac{3\pi}{4}, 6.05\right), \left(\frac{\pi}{4}, 1.11\right). \text{ ב. } t = \frac{\pi}{12}. \text{ ג. } \quad (12)$$

מציאת תחום ההגדרה של פונקציות טריגונומטריות:

שאלות:

13 מצא את תחום ההגדרה של הפונקציות הבאות בתחום הנתון:

ב. $f(x) = \frac{1}{\sin x - \cos x}$, $[-\pi, \pi]$

א. $f(x) = \frac{\sin x}{1 + \cos 2x}$, $[0, 2\pi]$

ג. $f(x) = \tan x$, $[0, 2\pi]$

תשובות סופיות:

ב. $-\pi \leq x \leq \pi$ וגם $x \neq \frac{\pi}{4}, -\frac{3\pi}{4}$

13 א. $0 \leq x \leq 2\pi$ וגם $x \neq \frac{\pi}{2}, \frac{3\pi}{2}$

ג. $0 \leq x \leq 2\pi$ וגם $x \neq \frac{\pi}{2}, \frac{3\pi}{2}$

מציאת נקודות קיצון:

שאלות:

14 מצא את נקודות הקיצון של הפונקציה: $f(x) = \sin x + \cos x$ בתחום: $[0, 2\pi]$.

15 מצא את נקודות הקיצון של הפונקציה: $f(x) = \sin x - \frac{x}{2}$ בתחום: $[0, 2\pi]$.

16 מצא את נקודות הקיצון המוחלטות של הפונקציה: $f(x) = \frac{\sin x + 1}{\sin x - 1}$ בתחום: $[0, 2\pi]$.

17 מצא את נקודות הקיצון המוחלטות של הפונקציה: $f(x) = \frac{1}{5} \sin^5 x - \frac{1}{3} \sin^3 x - 2 \sin x$ בתחום: $[0, 1.5\pi]$.

18 לפונקציה: $f(x) = a \sin x + b \sin^3 x$ (פרמטרים a, b) יש נקודת קיצון ששיעוריה $\left(\frac{7\pi}{6}, -1\right)$. מצא את ערכי הפרמטרים a ו- b .

תשובות סופיות:

14 קצה $\max(2\pi, 1)$, $\min\left(\frac{5}{4}\pi, -\sqrt{2}\right)$, $\max\left(\frac{\pi}{4}, \sqrt{2}\right)$, קצה $\min(0, 1)$

15 קצה $\max(2\pi, -\pi)$, $\min\left(\frac{5}{3}\pi, -\frac{\sqrt{3}}{2} - \frac{5}{6}\pi\right)$, $\max\left(\frac{\pi}{3}, \frac{\sqrt{3}}{2} - \frac{\pi}{6}\right)$, קצה $\min(0, 0)$

16 קצה $\min(2\pi, -1)$, קצה $(0, -1)$, קצה $\max\left(\frac{3}{2}\pi, 0\right)$ מוחלט.

17 $\max\left(\frac{3}{2}\pi, 2\frac{2}{15}\right)$, $\min\left(\frac{\pi}{2}, -2\frac{2}{15}\right)$

18 $b = -4$, $a = 3$

מציאת אסימפטוטות המקבילות לצירים:

שאלות:

(19) מצא את האסימפטוטות האנכיות לפונקציה: $f(x) = \frac{1}{\sin 3x}$ בתחום: $[0, \pi]$.

(20) מצא את האסימפטוטות האנכיות לפונקציה: $f(x) = \frac{1}{\sin x} - \frac{1}{\cos x}$ בתחום: $[0, \pi]$.

(21) מצא את האסימפטוטות האנכיות לפונקציה: $f(x) = \tan x$ בתחום: $[-\pi, \pi]$.

תשובות סופיות:

(19) $x = 0, x = \frac{\pi}{3}, x = \frac{2\pi}{3}, x = \pi$

(20) $x = 0, x = \frac{\pi}{2}, x = \pi$

(21) $x = \frac{\pi}{2}, x = -\frac{\pi}{2}$

מציאת נקודות פיתול ותחומי קעירות:

שאלות:

22) מצא את נקודות הפיתול ואת תחומי הקעירות כלפי מעלה ומטה של הפונקציה $f(x) = \sin^2 x - 2\sin x$ בתחום: $[0, 2\pi]$.

תשובות סופיות:

22) נקודות פיתול: $\left(\frac{7}{6}\pi, 1\frac{1}{4}\right), \left(\frac{11}{6}\pi, 1\frac{1}{4}\right)$, קעור מעלה: $0 < x < \frac{7}{6}\pi, \frac{11}{6}\pi < x < 2\pi$, קעור מטה: $\frac{7}{6}\pi < x < \frac{11}{6}\pi$.

חקירת פונקציה טריגונומטרית:

שאלות:

(23) נתונה הפונקציה: $f(x) = x + 2\cos x$ בתחום $[0, 2\pi]$.

חקור לפי הסעיפים הבאים:

- מציאת תחום ההגדרה של הפונקציה.
- מציאת נקודות הקיצון של גרף הפונקציה.
- תחומי עלייה וירידה של גרף הפונקציה.
- מציאת נקודת החיתוך של גרף הפונקציה עם ציר ה- y .
- מציאת אסימפטוטות המקבילות לצירים.
- מציאת נקודות פיתול.
- מציאת תחומי הקעירות כלפי מעלה וכלפי מטה של הפונקציה.
- סרטוט סקיצה של גרף הפונקציה.

(24) נתונה הפונקציה: $f(x) = \frac{1}{\sin x} + \frac{1}{\cos x}$ בתחום $[0, \pi]$.

חקור לפי הסעיפים הבאים:

- מציאת תחום ההגדרה של הפונקציה.
- מציאת נקודות הקיצון של גרף הפונקציה.
- תחומי עלייה וירידה של גרף הפונקציה.
- מציאת נקודת החיתוך של גרף הפונקציה עם ציר ה- x בתחום הנתון.
- מציאת אסימפטוטות המקבילות לצירים.
- סרטוט סקיצה של גרף הפונקציה.

(25) נתונה הפונקציה: $f(x) = 4\sin 2x - 2$ בתחום $0 \leq x \leq \pi$.

- מצא את נקודות החיתוך של הפונקציה עם הצירים בתחום הנתון.
- מצא את נקודות הקיצון של הפונקציה בתחום הנתון וקבע את סוגן.
- סרטוט סקיצה של גרף הפונקציה.
- מעבירים את הישר $y = k$ היעזר בסקיצה ומצא לאילו ערכי k הישר יחתוך את גרף הפונקציה בשתי נקודות בדיוק.
- העבירו ישר המשיק לפונקציה בנקודת המקסימום המוחלט שלה. כמו כן העבירו מנקודה זו אנך לציר x . מצא את שטח המלבן הנוצר על ידי הצירים, המשיק והאנך.

(26) נתונה הפונקציה: $f(x) = \cos^2 x - \cos x - 2$ בתחום: $0 \leq x \leq 2\pi$.

- מצא את נקודות החיתוך של גרף הפונקציה עם הצירים.
- מצא את נקודות הקיצון של גרף הפונקציה וקבע את סוגן.
- כתוב את תחומי העלייה והירידה של הפונקציה.
- סרטט סקיצה של גרף הפונקציה.

(27) נתונה הפונקציה: $f(x) = \cos x + \frac{1}{m} \sin mx$, $1 < m < 3$, (m פרמטר).

הנגזרת של הפונקציה מתאפסת כאשר: $x = -\frac{\pi}{2}$.

- מצא את ערך הפרמטר m .
- האם הנקודה שבה: $x = -\frac{\pi}{2}$ היא נקודת קיצון? אם כן קבע את סוגה. אם לא נמק מדוע.
- מצא כמה נקודות קיצון מקומיות יש לגרף הפונקציה בתחום: $0 < x < 2\pi$.
- מצא את נקודות החיתוך של גרף הפונקציה עם ציר ה- x בתחום הנתון.

(28) נתונה הפונקציה הבאה: $y = \cos x \cdot (\sin x + 1)$ בתחום: $0 \leq x \leq 1.5\pi$.

- מצא את נקודות החיתוך של גרף הפונקציה עם הצירים.
- מצא את נקודות הקיצון של גרף הפונקציה.
- סרטט סקיצה של גרף הפונקציה.
- כמה פתרונות יש למשוואה: $\cos x \cdot (\sin x + 1) = 1$ בתחום הנתון?

(29) נתונה הפונקציה: $f(x) = \sin^2 x + \cos x - 1$.

- מצא בתחום $[0, \pi]$ את נקודות החיתוך עם הצירים של הפונקציה ואת נקודות הקיצון שלה.
- הוכח שהפונקציה זוגית.
- שרטט את הפונקציה בתחום $[-\pi, \pi]$.

(30) נתונה הפונקציה: $f(x) = 4x - 3 \tan x$ בתחום $\left[-\frac{\pi}{6}, \frac{2\pi}{3}\right]$.

חקור את הפונקציה על פי הסעיפים הבאים:

- מציאת תחום ההגדרה של הפונקציה.
- מציאת נקודות הקיצון של גרף הפונקציה.
- תחומי עלייה וירידה של גרף הפונקציה.
- מציאת נקודת החיתוך של גרף הפונקציה עם ציר ה- y .
- מציאת אסימפטוטות אנכיות.
- מציאת נקודות פיתול.
- מציאת תחומי קעירות כלפי מעלה ומטה.
- סרטוט סקיצה של גרף הפונקציה.

(31) נתונה הפונקציה: $f(x) = \tan 2x - 8 \sin 2x$ בתחום: $-0.25\pi < x < 0.25\pi$.

- מצא את נקודות החיתוך של גרף הפונקציה עם הצירים בתחום הנתון.
- כתוב את האסימפטוטות האנכיות של גרף הפונקציה.
- מצא את נקודות הקיצון של גרף הפונקציה בתחום הנתון.
- סרטוט סקיצה של גרף הפונקציה בתחום הנתון.

(32) נתונה הפונקציה: $f(x) = \tan(x^2 - 4x)$ בתחום $[0, 4]$.

חקור את הפונקציה על פי הסעיפים הבאים:

- מציאת תחום ההגדרה של הפונקציה.
- מציאת נקודות הקיצון של גרף הפונקציה.
- סרטוט סקיצה של גרף הפונקציה.

(33) נתונה הפונקציה: $f(x) = x \cos x - x$ בתחום: $-3\pi \leq x \leq 3\pi$.

- מצא את נקודות החיתוך של גרף הפונקציה עם ציר ה- x .
- ענה על הסעיפים הבאים:

i. הראה כי נקודות החיתוך של גרף הפונקציה עם ציר ה- x הנגזרת של הפונקציה מתאפסת.

- ii. ידוע גם כי: $f'(-3.67) = 0$, $f'(3.67) = 0$ וכי אין נקודות נוספות בתחום הנתון שבהן הנגזרת מתאפסת. קבע אלו נקודות, מבין נקודות החיתוך שמצאת, הן נקודות קיצון ואלו אינן נקודות קיצון. מצא את סוג הקיצון בכל מקרה.

(34) נתונה הפונקציה: $y = (\cos x + k)^2$, פרמטר, בתחום: $0 \leq x \leq 2\pi$.

הפונקציה חותכת את ציר ה- x בנקודה שבה $x = \frac{2\pi}{3}$.

- מצא את k וכתוב את הפונקציה.
- מצא את נקודת המקסימום שאיננה מוחלטת בתחום הנתון.
- האם יש לגרף הפונקציה נקודות מינימום שאינן מוחלטות? אם כן מהן?

(35) נתונה הפונקציה: $f(x) = m \sin x + k \cos^2 x$, (m פרמטר).

מעבירים משיק לגרף הפונקציה בנקודה שבה $x = \pi$ שמשוואתו: $y = -6x + 6\pi + \sqrt{7}$.

- מצא את ערכי הפרמטרים k ו- m .
- מצא את נקודות הקיצון בתחום: $-0.5\pi \leq x \leq 1.5\pi$.
- סרטט סקיצה של גרף הפונקציה וקבע עפ"י הסקיצה בכמה נקודות גרף הפונקציה חותך את ציר ה- x בתחום הנ"ל.

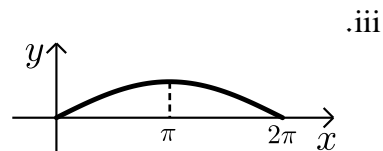
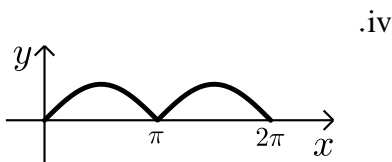
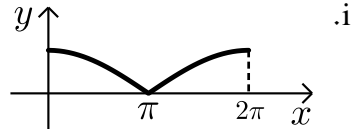
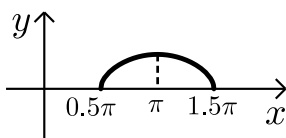
(36) נתונה הפונקציה: $f(x) = \tan x + kx$, (k פרמטר) בתחום: $0 \leq x \leq \pi$.

- מצא את האסימפטוטה האנכית של הפונקציה בתחום הנתון.
- הפונקציה: $g(x) = \tan^2 x + kx$ חותכת את הפונקציה $f(x)$ בשתי נקודות החיתוך שלה עם ציר ה- x בתחום הנתון.
- מצא את ערך הפרמטר k , ($k \neq 0$).
- מצא את נקודות הקיצון של הפונקציה $f(x)$ בתחום הנתון וקבע את סוגן.
- סרטט סקיצה של גרף הפונקציה $f(x)$.

37) לפניך הפונקציות הבאות: $f(x) = \sqrt{-\cos x}$, $g(x) = \sqrt{\cos x + 1}$.

הפונקציה $f(x)$ מוגדרת בתחום $0.5\pi \leq x \leq 1.5\pi$ והפונקציה $g(x)$ מוגדרת בתחום $0 \leq x \leq 2\pi$.

- האם הגרפים חותכים את ציר ה- x בתחום הנתון? הראה חישוב מתאים.
- האם הגרפים חותכים זה את זה בתחום הנתון? אם כן מצא את נקודות החיתוך.
- מצא את נקודת הקיצון של הפונקציה $f(x)$ בתחום הנתון וקבע את סוגה.
- לפניך ארבעה איורים: i, ii, iii, iv. קבע על סמך הסעיפים הקודמים איזה איור מתאר את הגרף של $f(x)$ ואיזה מתאר את הגרף של $g(x)$. נמק.



תשובות סופיות:

23 א. $0 \leq x \leq 2\pi$.

ב. $\max(2\pi, 2\pi + 2)$ קצה, $\min\left(\frac{\pi}{6}, \frac{\pi}{6} + \sqrt{3}\right)$, $\min\left(\frac{5}{6}\pi, \frac{5}{6}\pi - \sqrt{3}\right)$ קצה, $\min(0, 2)$ קצה.

ג. תחומי עלייה: $\frac{5\pi}{6} < x < 2\pi$ או $0 < x < \frac{\pi}{6}$, תחומי ירידה: $\frac{\pi}{6} < x < \frac{5}{6}\pi$.

ד. $(0, 2)$. ה. אין. ו. $\left(\frac{\pi}{2}, \frac{\pi}{2}\right)$, $\left(\frac{3\pi}{2}, \frac{3\pi}{2}\right)$.

ז. קעירות כלפי מעלה: $\frac{\pi}{2} < x < \frac{3}{2}\pi$, קעירות כלפי מטה: $\frac{3\pi}{2} < x < 2\pi$ או $0 < x < \frac{\pi}{2}$.

24 א. $0 < x < \frac{\pi}{2}$; $\frac{\pi}{2} < x < \pi$. ב. $\min\left(\frac{\pi}{4}, 2\sqrt{2}\right)$.

ג. תחומי עלייה: $\frac{\pi}{2} < x < \pi$, $\frac{\pi}{4} < x < \frac{\pi}{2}$, תחומי ירידה: $0 < x < \frac{\pi}{4}$.

ד. $\left(\frac{3}{4}\pi, 0\right)$. ה. אנכית: $x = \pi$, $x = \frac{\pi}{2}$, $x = 0$.

25 א. $(0, -2)$, $\left(\frac{\pi}{12}, 0\right)$, $\left(\frac{5}{12}\pi, 0\right)$.

ב. $\min(0, -2)$, $\max\left(\frac{\pi}{4}, 2\right)$, $\min\left(\frac{3\pi}{4}, -6\right)$, $\max(\pi, -2)$.

ד. $-6 < k < 2$ וגם $k \neq -2$. ה. $\frac{\pi}{2}$.

26 א. $(\pi, 0)$, $(0, -2)$.

ב. $\max(0, -2)$, $\min\left(\frac{\pi}{3}, -2.25\right)$, $\max(\pi, 0)$, $\min\left(1\frac{2}{3}\pi, -2.25\right)$, $\max(2\pi, -2)$.

ג. עולה: $\frac{\pi}{3} < x < \pi$, $1\frac{2}{3}\pi < x < 2\pi$; יורדת: $\pi < x < 1\frac{2}{3}\pi$, $0 < x < \frac{\pi}{3}$.

27 א. $m = 2$. ב. נקודת פיתול. ג. 2 נקודות.

ד. $(0.5\pi, 0)$, $(1.5\pi, 0)$.

28 א. $(0, 1)$, $\left(\frac{\pi}{2}, 0\right)$, $\left(\frac{3\pi}{2}, 0\right)$. ב. $(0, 1)$, $\left(\frac{\pi}{6}, 1.29\right)$, $\left(\frac{5}{6}\pi, -1.29\right)$, $(1.5\pi, 0)$.

ד. 2 פתרונות.

29 א. חיתוך: $(0, 0)$, $\left(\frac{\pi}{2}, 0\right)$; קיצון: $\min(\pi, -2)$; קצה: $\min(0, 0)$, $\max\left(\frac{\pi}{3}, \frac{1}{4}\right)$.

$$(30) \text{ א. } -\frac{\pi}{6} \leq x \leq \frac{2}{3}\pi \text{ וגם } x \neq \frac{\pi}{2}$$

$$\text{ב. קצה } \min\left(\frac{2}{3}\pi, 13.57\right), \max\left(\frac{\pi}{6}, 0.36\right), \text{ קצה } \min\left(-\frac{\pi}{6}, -0.36\right)$$

$$\text{ג. תחומי עלייה: } -\frac{\pi}{6} \leq x \leq \frac{\pi}{6}, \text{ תחומי ירידה: } \frac{\pi}{6} \leq x \leq \frac{2}{3}\pi \text{ וגם } x \neq \frac{\pi}{2}$$

$$\text{ד. } (0,0) \quad \text{ה. אנכית: } x = \frac{\pi}{2} \quad \text{ו. } (0,0)$$

$$\text{ז. קעירות כלפי מעלה: } \frac{\pi}{2} \leq x \leq \frac{2}{3}\pi \text{ או } -\frac{\pi}{6} \leq x \leq 0, \text{ קעירות כלפי מטה: } 0 < x < \frac{\pi}{2}$$

$$(31) \text{ א. } (0,0), (\pm 0.23\pi, 0) \quad \text{ב. } x = \pm 0.25\pi \quad \text{ג. } \min\left(\frac{\pi}{6}, -\sqrt{27}\right), \max\left(-\frac{\pi}{6}, \sqrt{27}\right)$$

$$(32) \text{ א. } 0 \leq x \leq 4 \text{ וגם } x \neq 0.44, x \neq 3.56$$

$$\text{ב. קצה } \max(0,0), \min(2, -1.16), \max(4,0)$$

$$(33) \text{ א. } (0,0), (2\pi,0), (-2\pi,0)$$

$$\text{ב. ii. } \min(-2\pi,0), \max(2\pi,0), (0,0) \text{ פיתול}$$

$$(34) \text{ א. } y = (\cos x + 0.5)^2, k = 0.5 \quad \text{ב. } (\pi, 0.25) \quad \text{ג. לא}$$

$$(35) \text{ א. } m = 6, k = \sqrt{7} \quad \text{ב. } (-0.5\pi, -6), (0.5\pi, 6), (1.5\pi, -6) \quad \text{ג. בשתי נקודות}$$

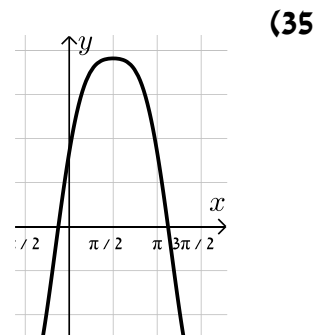
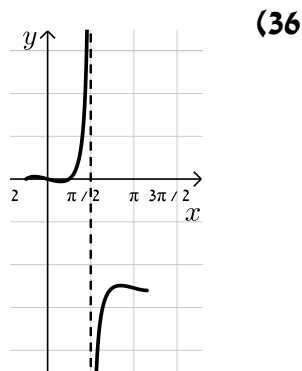
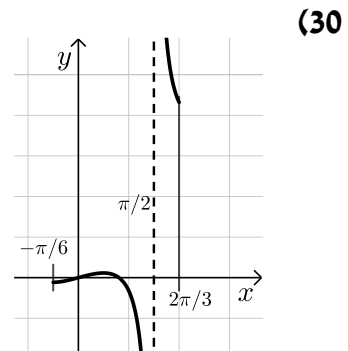
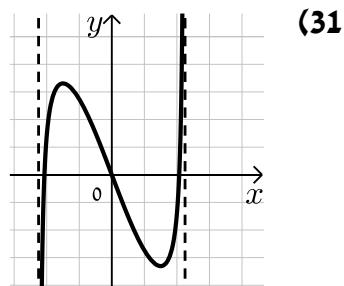
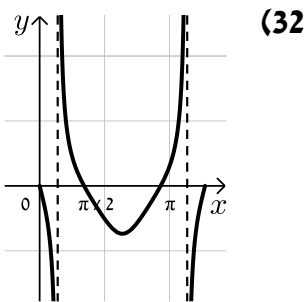
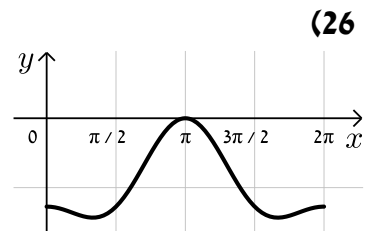
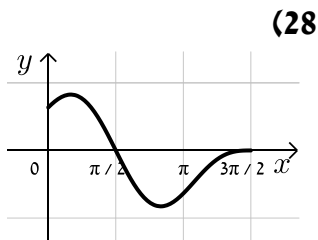
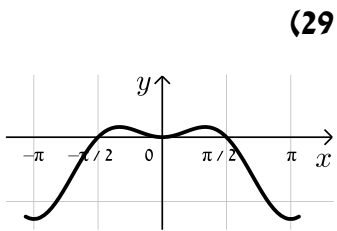
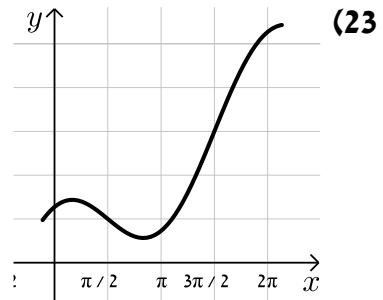
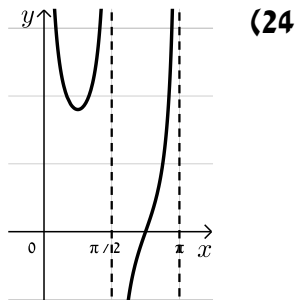
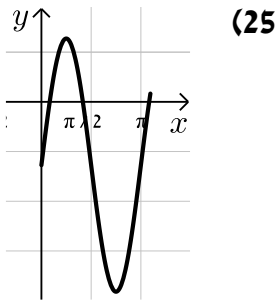
$$(36) \text{ א. } x = 0.5\pi \quad \text{ב. } k = -\frac{4}{\pi} \approx -1.27$$

$$\text{ג. } \max(0,0), \min(0.15\pi, -0.07), \max(0.84\pi, -3.9), \min(\pi, -4)$$

$$(37) \text{ א. כן. } f(x): (0.5\pi, 0), (1.5\pi, 0), g(x): (\pi, 0) \quad \text{ב. כן, } \left(\frac{2}{3}\pi, \frac{1}{\sqrt{2}}\right), \left(\frac{4}{3}\pi, \frac{1}{\sqrt{2}}\right)$$

$$\text{ג. } \max(0.5\pi, 0), \min(1.5\pi, 0), \max(\pi, 1) \quad \text{ד. איור I - } g(x), \text{ איור II - } f(x)$$

סקיצות לשאלות החקירה:



מכינה במתמטיקה להנדסת מכונות

פרק 36 - חשבון דיפרנציאלי - הזזות ומתיחות של פונקציות

תוכן העניינים

604	1. הקדמה כללית
606	2. הוספת קבוע לפונקציה
614	3. הכפלת פונקציה בקבוע
621	4. הזזת פונקציה ימינה ושמאלה
625	5. מתיחה וכיווץ של פונקציה
630	6. היפוך גרף פונקציה ביחס לציר y
635	7. ערך מוחלט של פונקציה

הקדמה כללית:

סיכום כללי:

- הוספת קבוע לפונקציה :
 בהינתן פונקציה $y = f(x)$, כל הנקודות שעל גרף הפונקציה : $g(x) = f(x) + k$
 מתקבלת ע"י הוספת קבוע k לערך ה- y . במילים אחרות, אם נקודה (x_0, y_0) נמצאת
 על גרף הפונקציה $f(x)$ אז הנקודה $(x_0, y_0 + k)$ תמצא על גרף הפונקציה $g(x)$.
 הוספת קבוע מעלה ומורידה את גרף הפונקציה $f(x)$ ב- k יחידות.
- הכפלת פונקציה בקבוע :
 בהינתן פונקציה $y = f(x)$ ועליה נקודה כללית (x_0, y_0) , הפונקציה $g(x) = k \cdot f(x)$
 מתקבלת ע"י הכפלת $f(x)$ בקבוע k ($k \neq 0$). נקודה על $g(x)$ תהיה
 מהצורה : $(x_0, k \cdot y_0)$. הכפלת פונקציה בקבוע חיובי מותחת ומכווצת את גרף
 הפונקציה בצורה אנכית. הכפלת פונקציה בקבוע שלילי מותחת ומכווצת את גרף
 הפונקציה בצורה אנכית והופכת אותו ביחס לציר ה- x .
- הזזת פונקציה ימינה ושמאלה :
 כדי להזיז פונקציה $y = f(x)$, k יחידות ימינה נציב : $g(x) = f(x - k)$
 וכדי להזיז אותה שמאלה ב- k יחידות נציב : $g(x) = f(x + k)$.
- מתיחה וכיווץ אופקיים של פונקציה :
 כדי לכווץ פונקציה כלשהי $y = f(x)$ פי k (מניחים $k > 1$) נציב : $g(x) = f(k \cdot x)$.
 כדי להרחיב פונקציה כלשהי $y = f(x)$ פי k (מניחים $k > 1$) נציב : $g(x) = f(x/k)$.
- שיקוף גרף פונקציה ביחס לציר y :
 כדי לשקף את גרף הפונקציה $y = f(x)$ סביב ציר ה- y נכפיל את ערך ה- x פי -1.
 הגרפים של הפונקציות $y_1 = f(x)$ ו- $y_2 = f(-x)$ מהווים שיקוף זה לזה ביחס
 לציר ה- y .

- ערך מוחלט של פונקציה :
 הערך המוחלט של : $y = f(x)$, מתקבל ע"י לקיחת ערכי ה- y בגודלם בלבד.
 במילים אחרות, הערך המוחלט של $f(x)$ הוא : $y = |f(x)|$. הגרפים של
 הפונקציות $f(x)$ ו- $|f(x)|$ זהים לחלוטין בערכם החיובי (ז"א בחלקם שמעל לציר
 ה- x) וסימטריים לחלוטין בערכם השלילי ביחס לציר ה- x כאשר הגרף של $f(x)$
 נמצא מתחת לציר ה- x והגרף של $|f(x)|$ נמצא מעל לציר ה- x .

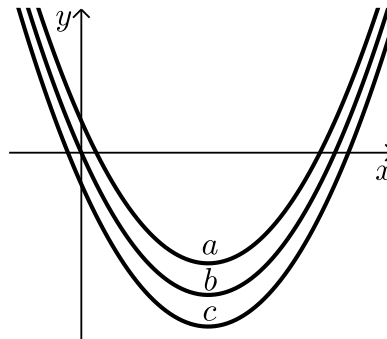
הוספת קבוע לפונקציה:

שאלות:

(1) סרטט במערכת צירים אחת את גרף הפונקציה $f(x) = x^2$ ואת הגרף $y = f(x) + k$ עבור $k = 1$ ו- $k = -4$.

(2) נתונה הפונקציה: $f(x) = -2x^2$. מגדירים את הפונקציה: $g(x) = f(x) + b$.
 א. מהו ערך הפרמטר b עבורו גרף הפונקציה $g(x)$ יעבור בנקודה $(2, 10)$?
 ב. מצא את ערך הפרמטר b עבורו $g(x)$ תקבל ערך מקסימלי של 4.
 ג. מצא את ערך הפרמטר b עבורו $g(x)$ תקבל ערך מקסימלי של -3.

(3) לפניך שלוש גרפים של פונקציות:
 $f(x) = x^2 - 6x$, $g(x) = x^2 - 6x - 2$, $h(x) = x^2 - 6x + 2$
 התאם כל גרף מבין הגרפים a, b ו- c לכל פונקציה:



(4) נתונה הפונקציה: $f(x) = x^3 - 4x$. מגדירים את הפונקציה: $g(x) = f(x) + A$.
 כאשר A הוא פרמטר השונה מאפס.
 א. הבע באמצעות A את הפונקציה $g(x)$.
 ב. מהו A עבורו גרף הפונקציה $g(x)$ יהיה נמוך משל $f(x)$ ב-5 יחידות?
 ג. מהו A עבורו גרף הפונקציה $g(x)$ יחתוך את ציר ה- y בנקודה שבה $y = 3$?

$$(5) \quad \text{נתונות שתי פונקציות: } f(x) = \frac{3-2x}{x} \text{ ו- } g(x) = \frac{3}{x}.$$

- א. הראה כי גרף הפונקציה $f(x)$ נמצא מתחת לגרף הפונקציה $g(x)$ לכל ערך של x וחשב בכמה יחידות $f(x)$ מתחת ל- $g(x)$.
- ב. כתוב פונקציה שערכיה יהיו גדולים משל $g(x)$ ב-4 יחידות לכל x .

$$(6) \quad \text{נתונה הפונקציה: } f(x) = \frac{2}{x^2}. \text{ מגדירים את הפונקציה: } g(x) = f(x) + B, \quad B \neq 0.$$

- א. מהן האסימפטוטות האופקיות של $f(x)$ ושל $g(x)$?
- ב. סרטט במערכת צירים אחת באופן איכותי את הגרפים של הפונקציות $f(x)$ ו- $g(x)$ עבור $B > 0$.
- ג. האם גרף הפונקציה $g(x)$ חותך את ציר ה- x עבור $B > 0$? נמק אלגברית וגרפית (היעזר בסעיף הקודם).
- ד. מצא את B עבורו גרף הפונקציה $g(x)$ יחותך את ציר ה- x בנקודה שבה $x=2$ וקבע איזה גרף מבין השניים יהיה מעל השני ובכמה יחידות.

$$(7) \quad \text{מצא בכמה יחידות יש להוריד את גרף הפונקציה } f(x) = \frac{x}{x^2+1} \text{ על מנת שהיא תהיה אי-חיובית בכל תחום הגדרתה.}$$

$$(8) \quad \text{הפונקציה: } f(x) = \sqrt{x} + b, \quad (b \text{ פרמטר}) \text{ חותכת את ציר ה-} x \text{ בנקודה שבה } x=9. \text{ מצא בכמה יחידות היא נמוכה מהפונקציה: } g(x) = \sqrt{x}.$$

$$(9) \quad \text{נתונה הפונקציה: } f(x) = \sqrt{9-x^2}.$$

- א. מצא את תחום ההגדרה של הפונקציה, נקודת הקיצון המקומית שלה ונקודות החיתוך שלה עם הצירים.
- ב. מגדירים את הפונקציה $g(x) = f(x) + 3$.
- סרטט במערכת צירים את הגרפים של הפונקציות $f(x)$ ו- $g(x)$.

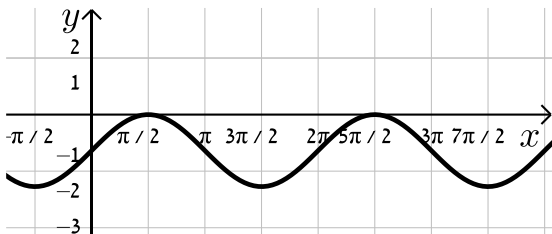
10 נתונה הפונקציה: $f(x) = \frac{x+b}{(x+a)^2}$, $a, b \neq 0$. ידוע כי לפונקציה נקודת קיצון $(-1, \frac{1}{4})$.

- א. מצא את ערכי הפרמטרים a ו- b .
 ב. חקור את הפונקציה לפי: תחום ההגדרה, נקודות קיצון וסוגן, תחומי עלייה וירידה, נקודות חיתוך עם הצירים, אסימפטוטות המקבילות לצירים, סרטוט סקיצה.
 ג. מגדירים: $g(x) = f(x) + k$. מצא לאלו ערכי k יהיה גרף הפונקציה $g(x)$ כולו מתחת לציר ה- x .

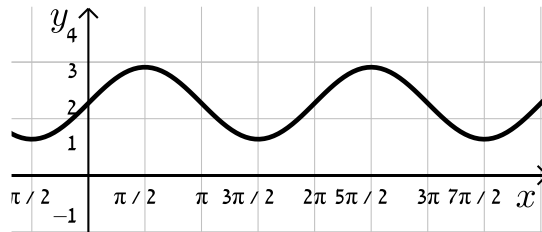
11 נתונה הפונקציה: $f(x) = \sin x + b$.

קבע את הערך של b בכל אחד מהמקרים הבאים:

ב.



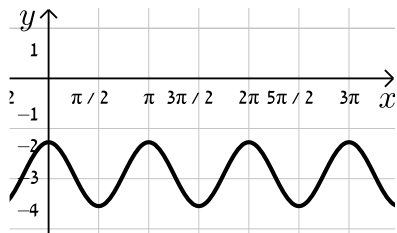
א.



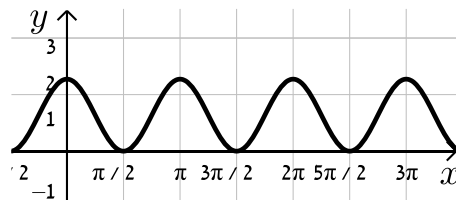
12 נתונה הפונקציה: $f(x) = \cos 2x + b$.

קבע את הערך של b בכל אחד מהמקרים הבאים:

ב.



א.



13 נתונה הפונקציה $f(x) = \frac{a}{x+1} + \frac{x+1}{x+b}$ (a, b פרמטרים).

ידוע כי הפונקציה $g(x) = \frac{1}{x^2 + 3x + 2}$ מקיימת: $f(x) = g(x) + k$

כאשר k הוא ערך קבוע כלשהו.

- א. מצא את ערכי הפרמטרים a ו- b .
 ב. מצא את נקי הקיצון ואת תחומי העלייה והירידה של שתי הפונקציות.
 ג. הראה כי לפונקציות אין נקודות פיתול.
 ד. סרטט במערכת צירים אחת את הגרפים של שתי הפונקציות $f(x)$ ו- $g(x)$.
 ציין על הגרפים את נקודות הקיצון והחיתוך עם הצירים.

14 נתונה הפונקציה הבאה: $f(x) = \frac{\sqrt{x^2+a}}{x+1}$, פרמטר a .

ידוע כי הפונקציה מקבלת ערך מינימלי של $-\sqrt{2}$.

א. מצא את a וכתוב את הפונקציה $f(x)$.

ב. חקור את הפונקציה לפי: תחום הגדרה, נקודות קיצון וסוגן, תחומי עלייה וירידה, נקודות חיתוך עם הצירים, מציאת אסימפטוטות המקבילות לצירים, סרטוט סקיצה של גרף הפונקציה.

ג. מגדירים פונקציה: $g(x) = f(x) + k$. מצא את הערכים של k עבורם לפונקציה

$g(x)$ ולציר ה- x לא יהיו נקודות משותפות כלל.

15 נתונה הפונקציה הבאה: $f(x) = \frac{a}{\sqrt{ax^2+2x+2}}$, פרמטר $a \neq 0$.

א. עבור אלו ערכים של a הפונקציה מוגדרת לכל x ?

ב. הבע באמצעות a את נקודת הקיצון של הפונקציה וקבע את סוגה אם נתון שהפונקציה מוגדרת לכל x .

ג. ידוע כי לפונקציה: $g(x) = f(x) - a$ יש נקודת קיצון על ציר ה- x .

מצא את ערכו של a .

16 נתונה הפונקציה הבאה: $f(x) = \frac{\sin x + a}{\cos x + 1}$ בתחום $-\frac{\pi}{2} < x < \frac{\pi}{2}$, פרמטר a .

א. עבור אילו ערכים של a אין לפונקציה נקודות קיצון בתחום הנתון.

ב. מגדירים פונקציה נוספת ע"י הוספת הקבוע k באופן הבא: $g(x) = f(x) + k$.

ידוע כי ל- $g(x)$ נקודת קיצון $\left(-\frac{\pi}{4}, 3\right)$.

מצא את ערכו של הפרמטר k .

17 נתונה הפונקציה: $f(x) = \frac{x+2}{(2x-1)^2}$.

א. חקור את הפונקציה לפי הסעיפים הבאים:

i. מצא את תחום ההגדרה של הפונקציה.

ii. מצא את נקודות הקיצון של הפונקציה.

iii. מצא את נקודות החיתוך של גרף הפונקציה עם הצירים.

iv. מצא את האסימפטוטות המקבילות לצירים של הפונקציה.

ב. מגדירים פונקציה נוספת: $g(x) = \frac{9x-8x^2}{(2x-1)^2}$.

- i. מה הוא תחום ההגדרה של הפונקציה $g(x)$?
- ii. מה הן נקודות החיתוך של גרף הפונקציה $g(x)$ עם הצירים?
- iii. הראה כי לכל נקודה $A(x_0, y_0)$ שבתחום ההגדרה של $f(x)$, מתקיים: $f(x_0) - g(x_0) = k$ ומצא את k .
- מה ניתן לומר על הקשר שבין שתי הפונקציות?
- ג. סרטט במערכת צירים אחת את הגרפים של שתי הפונקציות.

18 נתונה הפונקציה: $f(x) = \frac{\sqrt{x+a}}{\sqrt{x+a}}$, כאשר a הוא פרמטר השונה מאפס.

- א. הבע את תחום ההגדרה של $f(x)$ באמצעות a (הבחן בין שני מקרים).
- ב. הראה כי לפונקציה $f(x)$ יש נקודת קיצון והבע את סוגה כתלות ב- a .
- עבור הסעיפים הבאים הנח כי $a=3$.
- ג. ענה על הסעיפים הבאים:
- i. כתוב את האסימפטוטה האופקית של $f(x)$.
- ii. מצא את נקודות החיתוך של $f(x)$ עם הצירים.
- iii. סרטט סקיצה של גרף הפונקציה $f(x)$.
- ד. מגדירים פונקציה נוספת: $g(x) = \frac{bx+3b+(\sqrt{x+3})\sqrt{x+3}+2x+6}{x+3}$.
- b פרמטר.
- i. הבע באמצעות b את האסימפטוטה האופקית של $g(x)$.
- ii. היעזר בסעיפים הקודמים וקבע האם ניתן לכתוב את $g(x)$ באופן הבא: $g(x) = f(x) + k$. אם כן, הבע את k באמצעות b .

תשובות סופיות:

- (1) סרטוט בסוף.
- (2) א. $b=18$ ב. $b=4$ ג. $b=-3$.
- (3) ההתאמה: $f(x) \rightarrow b, g(x) \rightarrow c, h(x) \rightarrow a$.
- (4) א. $g(x) = x^3 - 4x + A$ ב. $A = -5$ ג. $A = 3$.
- (5) א. הוכחה. ב. $h(x) = \frac{3+4x}{x}$.
- (6) א. $f(x) \rightarrow y=0, g(x) \rightarrow y=B$ ב. סרטוט בסוף ג. לא.
- ד. $B = -\frac{1}{2}$. $f(x)$ נמצאת מעל $g(x)$ ב- $\frac{1}{2}$ יחידה.
- (7) $\frac{1}{2}$ יחידה (לפחות).
- (8) 3 יחידות.
- (9) א. תחום הגדרה: $-3 \leq x \leq 3$, נקודת קיצון: $\max(0,3)$, נקודות חיתוך עם הצירים: $(0,3), (3,0), (-3,0)$ ב. סרטוט בסוף.
- (10) א. $a=3, b=2$ ב. תחום הגדרה: $x \neq -3$, נקודת קיצון: $\max\left(-1, \frac{1}{4}\right)$, עולה: $-3 < x < -1$, יורדת: $-1 < x$, $x < -3$, חיתוך עם הצירים: $(0, \frac{2}{9}), (-2, 0)$.
- אסימפטוטות: $x = -3, y = 0$ ג. $k < -\frac{1}{4}$.
- (11) א. $b=2$ ב. $b=-1$.
- (12) א. $b=1$ ב. $b=-3$.
- (13) א. $a=1, b=2, k=1$ ב. נקודת קיצון של $f(x)$: $\max\left(-1\frac{1}{2}, -3\right)$.
- נקודת קיצון של $g(x)$: $\max\left(-1\frac{1}{2}, -4\right)$. תחום עלייה: $x < -2$ או $-2 < x < -1\frac{1}{2}$, תחום ירידה: $-1 < x < -1$ או $-1 < x < -1\frac{1}{2}$.
- ג. סעיף הוכחה, אין נקודות פיתול. ד. סרטוט בסוף.
- (14) א. $a = -2$. $f(x) = \frac{\sqrt{x^2-2}}{x+1}$ ב. תחום הגדרה: $x \leq -\sqrt{2}$ או $\sqrt{2} \leq x$, נקודת קיצון: $\max(-\sqrt{2}, 0), \min(\sqrt{2}, 0), \min(-2, -\sqrt{2})$. תחום עלייה: $\sqrt{2} < x$ או $-2 < x < -\sqrt{2}$, תחום ירידה: $x < -2$.

נקודות חיתוך עם הצירים : $(\sqrt{2}, 0), (-\sqrt{2}, 0)$.

אסימפטוטות: יש אסימפטוטה אופקית $y=1$ כאשר $x \rightarrow \infty$, כאשר $x \rightarrow -\infty$ $y=-1$.
סרטוט בסוף.

ג. $k > \sqrt{2}$ או $k \leq -1$.

א. $a > \frac{1}{2}$ (15) ב. $\max\left(-\frac{1}{a}, \sqrt{\frac{a^3}{2a-1}}\right)$ ג. $a=1$

א. $a=0$ (16) ב. $k=3$

א. $x \neq 0.5$ (17) ב. אין. ג. $(0, 2)$ ד. $x=0.5, y=0$

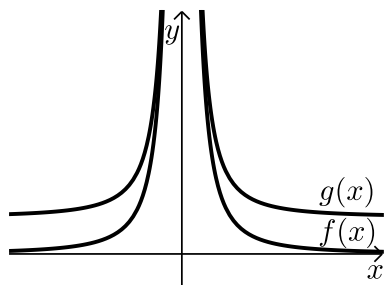
א. $x \neq 0.5$ ב. $(0, 0), \left(\frac{9}{8}, 0\right)$ ג. $g(x) = f(x) - 2, k=2$ ד. $(0, 0)$

א. $a > 0: x \geq 0, a < 0: x > -a$ (18) ב. אם $a > 0$, אז $\max(1, \sqrt{a+1})$

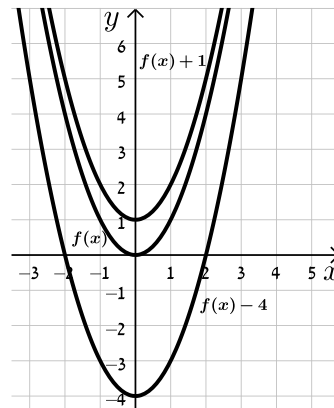
אם $-1 < a < 0$: אז $\min(1, \sqrt{a+1})$ אם $a \leq -1$: אין קיצון.

א. $y=1$ ב. $(0, \sqrt{3})$ ג. $y=b+3$ ד. $y=b+2$, כן

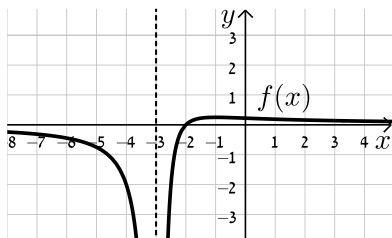
סרטוטים מרוכזים לפי מספרי שאלות:



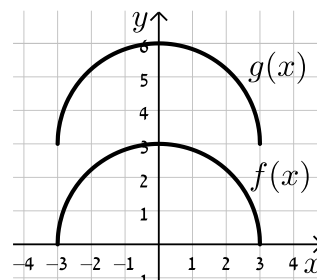
(6)



(1)

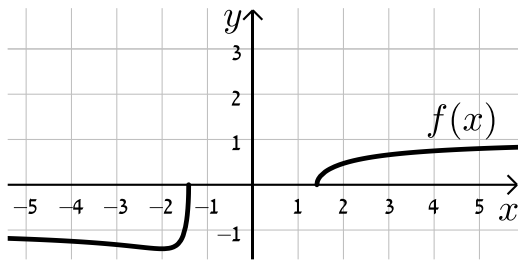


(10)

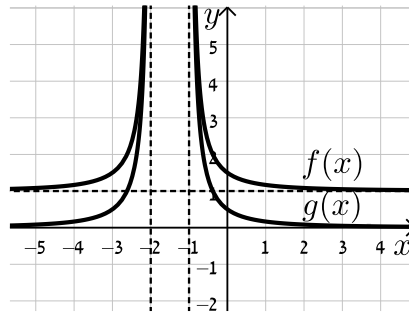


(9)

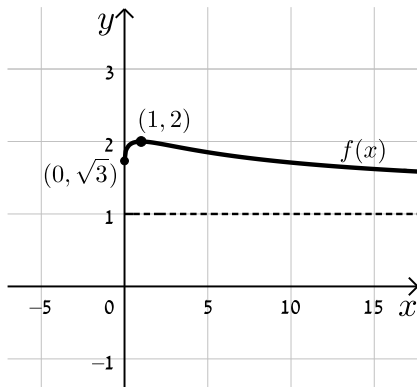
(14)



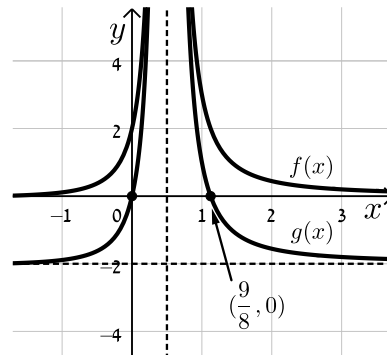
(13)



(18)



(17)



הכפלת פונקציה בקבוע:

שאלות:

19) סרטט במערכת צירים אחת את הגרפים של הפונקציות:

$$f(x) = x^2, \quad g(x) = 2x^2, \quad h(x) = 4x^2$$

20) סרטט במערכת צירים אחת את הגרפים של הפונקציות:

$$f(x) = x^2, \quad g(x) = \frac{1}{2}x^2, \quad h(x) = \frac{1}{4}x^2$$

21) סרטט במערכת צירים אחת את הגרפים של הפונקציות:

$$f(x) = x^2, \quad g(x) = -2x^2, \quad h(x) = -\frac{1}{2}x^2$$

22) נתונה הפונקציה הבאה: $f(x) = 8 - x^3$

א. מגדירים פונקציה חדשה: $g_1(x) = m \cdot f(x)$, $m > 1$

סרטט במערכת צירים אחת את הגרפים של הפונקציות $f(x)$ ו- $g_1(x)$.

ב. מגדירים פונקציה חדשה: $g_2(x) = m \cdot f(x)$, $0 < m < 1$

סרטט במערכת צירים אחת את הגרפים של הפונקציות $f(x)$ ו- $g_2(x)$.

ג. נסמן ב-A את נקודת החיתוך של גרף הפונקציה $f(x)$ עם ציר ה-y,

ב-B₁ את נקודת החיתוך של גרף הפונקציה $g_1(x)$ עם ציר ה-y

וב-B₂ את נקודת החיתוך של גרף הפונקציה $g_2(x)$ עם ציר ה-y.

i. מצא את ערך הפרמטר m עבור סעיף א' שמקיים: $y_{B_1} - y_A = 24$.

ii. מצא את ערך הפרמטר m עבור סעיף ב' שמקיים: $y_A - y_{B_2} = 4$.

23) נתונה הפונקציה הבאה: $f(x) = \frac{1}{x^2 + 4x + 8}$

א. מהו תחום ההגדרה של הפונקציה?

ב. מצא את נקודת הקיצון של הפונקציה וקבע את סוגה.

ג. כתוב את תחומי העלייה והירידה של הפונקציה.

ד. מצא את נקודות החיתוך של $f(x)$ עם הצירים.

ה. מצא את האסימפטוטות של הפונקציה המקבילות לצירים.

- ו. סרטט סקיצה של גרף הפונקציה.
- ז. מגדירים את הפונקציה: $g(x) = 3 \cdot f(x)$. ענה על השאלות הבאות:
- מהו תחום ההגדרה של $g(x)$?
 - מהן נקודות הקיצון של $g(x)$?
 - מהם תחומי העלייה והירידה של $g(x)$?
 - מהם שיעורי נקודות החיתוך של $g(x)$ עם הצירים?
 - מהם האסימפטוטות המקבילות לצירים של $g(x)$?
- ח. סרטט על אותה מערכת הצירים את גרף הפונקציה $g(x)$ לצד $f(x)$.

(24) נתונה הפונקציה הבאה: $f(x) = \frac{1}{x^2 + 4x + 8}$

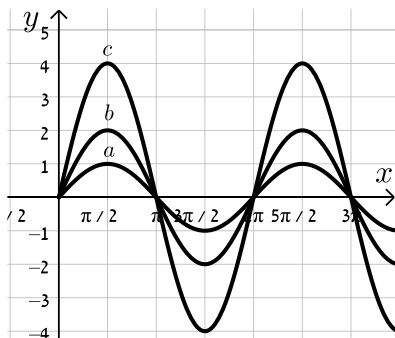
- מהו תחום ההגדרה של הפונקציה?
 - מצא את נקודת הקיצון של הפונקציה וקבע את סוגה.
 - כתוב את תחומי העלייה והירידה של הפונקציה.
 - מצא את נקודות החיתוך של $f(x)$ עם הצירים.
 - מצא את האסימפטוטות של הפונקציה המקבילות לצירים.
- ו. סרטט סקיצה של גרף הפונקציה.
- ז. מגדירים את הפונקציה: $g(x) = -2 \cdot f(x)$. ענה על השאלות הבאות:
- מהו תחום ההגדרה של $g(x)$?
 - מהן נקודות הקיצון של $g(x)$?
 - מהם תחומי העלייה והירידה של $g(x)$?
 - מהם שיעורי נקודות החיתוך של $g(x)$ עם הצירים?
 - מהם האסימפטוטות המקבילות לצירים של $g(x)$?
- ח. סרטט על אותה מערכת הצירים את גרף הפונקציה $g(x)$ לצד $f(x)$.

(25) נתונה הפונקציה: $f(x) = \frac{x}{x^2 + a}$, $a \neq 0$

- ידוע כי לגרף הפונקציה יש נקודת קיצון עבור $x = 1$.
- מצא את a וכתוב את הפונקציה $f(x)$ ואת תחום הגדרתה.
 - האם יש ל- $f(x)$ נקודות קיצון נוספות? אם כן מצא אותן וקבע את סוגן.
 - כתוב את תחומי העלייה והירידה של גרף הפונקציה $f(x)$.
 - מהן האסימפטוטות המקבילות לצירים של $f(x)$?

- ה. סרטט סקיצה של גרף הפונקציה של $f(x)$.
- ו. מגדירים את הפונקציה $g(x) = k \cdot f(x)$.
- ידוע כי ל- $g(x)$ יש נקודת קיצון $(1,1)$.
- מצא את k ואת נקודת הקיצון השנייה של הפונקציה $g(x)$.
- ז. מוסיפים קבוע B לפונקציה $g(x)$ כך שמתקבלת הפונקציה $h(x) = g(x) + B$ ובה אחת מנקודות הקיצון נמצאת על ציר ה- x .
- מצא את כל הערכים האפשריים עבור הקבוע B .
- 26** נתונה הפונקציה: $f(x) = 4x^3 - x$ ומגדירים גם את הפונקציה: $g(x) = -f(x)$.
- א. מצא את נקודות הקיצון ונקודות החיתוך עם הצירים של הפונקציה $f(x)$.
- ב. סרטט סקיצה של גרף הפונקציה $f(x)$.
- ג. התייחס לפונקציות $f(x)$ ו- $g(x)$ וענה על השאלות הבאות:
- הוכח כי לשתי הפונקציות אותן נקודות חיתוך עם ציר ה- x .
 - מה הקשר בין נקודת החיתוך עם ציר ה- y של כל פונקציה?
 - מה הקשר בין נקודות הקיצון של כל פונקציה?
 - האם, ואם כן – כיצד, משתנים תחומי העלייה והירידה של $g(x)$ ביחס ל- $f(x)$? נמק.

- 27** נתונה הפונקציה הבאה: $f(x) = k \cdot \frac{x-1}{x^2+3}$, $k > 0$.
- ידוע כי הנקודה הגבוהה ביותר על גרף הפונקציה מקיימת: $y = 1$.
- א. מצא את k וכתוב את הפונקציה $f(x)$.
- ב. חקור את הפונקציה לפי: תחום הגדרה, נקודות קיצון וסוגן, תחומי עלייה וירידה, נקודות חיתוך עם הצירים, אסימפטוטות המקבילות לצירים.
- ג. סרטט סקיצה של גרף הפונקציה.
- ד. הוסף באותו הסרטוט סקיצה של הפונקציה: $g(x) = -f(x)$.



- 28** נתונה הפונקציה: $f(x) = k \sin x$.
- באיור שלפניך 3 גרפים שונים.
- קבע מה צריך להיות ערכו של הפרמטר k עבורו כל גרף יתאים לפונקציה $f(x)$:

(29) מהפונקציה $f(x) = \cos x$ בונים פונקציה חדשה $g(x)$ המתקבלת ע"י הכפלת

הפונקציה המקורית פי 3 והזזתה כלפי מעלה ב-2 יחידות.

א. סרטט סקיצה של הפונקציה $g(x)$.

ב. בהנחה וסדר הפעולות של יצירת הפונקציה $g(x)$ היה הפוך, כלומר תחילה היינו מזיזים את הפונקציה המקורית כלפי מעלה ב-2 יחידות ורק לאחר מכן הפונקציה הייתה מוכפלת פי 3, האם הפונקציה המתקבלת הייתה זהה לזו שקיבלת בסעיף הקודם? נמק.

תשובות סופיות:

19) סרטוט בסוף.

20) סרטוט בסוף.

21) סרטוט בסוף.

22) א. סרטוט בסוף. ב. סרטוט בסוף. ג. $m=4$. ד. $k = \frac{1}{2}$.

23) א. תחום הגדרה: כל x . ב. נקודת קיצון: $\max\left(-2, \frac{1}{4}\right)$. ג. עולה: $x < -2$.

יורדת: $x > -2$. ד. נקודות חיתוך עם הצירים: $\left(0, \frac{1}{8}\right)$.

ה. אסימפטוטות: $y=0$. ו. סרטוט בסוף. ז. i. תחום הגדרה: כל x .

ii. נקודת קיצון: $\min\left(-2, \frac{3}{4}\right)$. iii. עולה: $x < -2$, יורדת: $x > -2$.

iv. נקודות חיתוך עם הצירים: $\left(0, \frac{3}{8}\right)$. v. אסימפטוטות: $y=0$.

ח. סרטוט בסוף.

24) א. תחום הגדרה: כל x . ב. נקודת קיצון: $\max\left(-2, \frac{1}{4}\right)$. ג. עולה: $x < -2$.

יורדת: $x > -2$. ד. נקודות חיתוך עם הצירים: $\left(0, \frac{1}{8}\right)$.

ה. אסימפטוטות: $y=0$. ו. סרטוט בסוף. ז. i. תחום הגדרה: כל x .

ii. נקודת קיצון: $\min\left(-2, -\frac{1}{2}\right)$. iii. עולה: $x > -2$, יורדת: $x < -2$.

iv. נקודות חיתוך עם הצירים: $\left(0, -\frac{1}{4}\right)$. v. אסימפטוטות: $y=0$.

ח. סרטוט בסוף.

25) א. $f(x) = \frac{x}{x^2+1}$, $a=1$, תחום הגדרה: כל x .

ב. נקודות קיצון: $\min\left(-1, -\frac{1}{2}\right), \max\left(1, \frac{1}{2}\right)$.

ג. עולה: $-1 < x < 1$, יורדת: $x < -1, x > 1$. ד. אסימפטוטות: $y=0$.

ה. סרטוט בסוף. ו. $k=2$, $\min(-1, -1)$. ז. $B = \pm 1$.

26) א. נקודות קיצון: $\min\left(\frac{1}{\sqrt{12}}, -0.192\right), \max\left(-\frac{1}{\sqrt{12}}, 0.192\right)$, נקודות חיתוך עם

הצירים: $(0,0), \left(\frac{1}{2}, 0\right), \left(-\frac{1}{2}, 0\right)$. ב. סרטוט בסוף.

ג. i. הוכחה. ii. זו אותה נקודה.

iii. שיעורי ה- x של נקודות הקיצון זהים, אך שיעורי ה- y הפוכים בסימנם וסוג

הקיצון הפוך. iv. כל תחומי העלייה והירידה מתהפכים.

27 א. $f(x) = \frac{6(x-1)}{x^2+3}, k=6$

ב. תחום הגדרה: כל x , נקודות קיצון: $\min(-1, -3), \max(3, 1)$, עולה: $-1 < x < 3$,

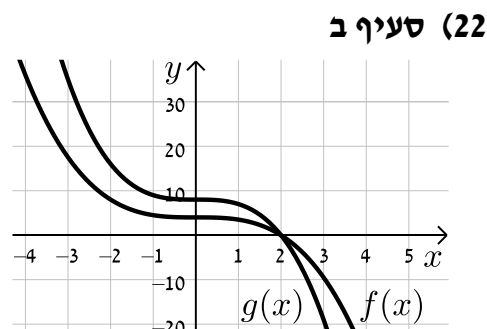
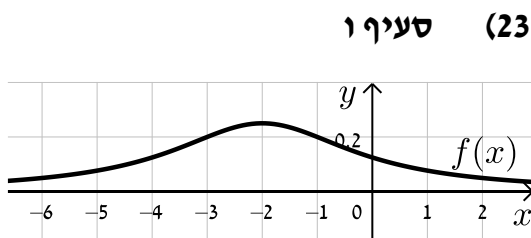
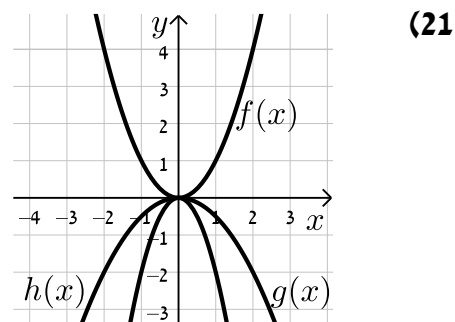
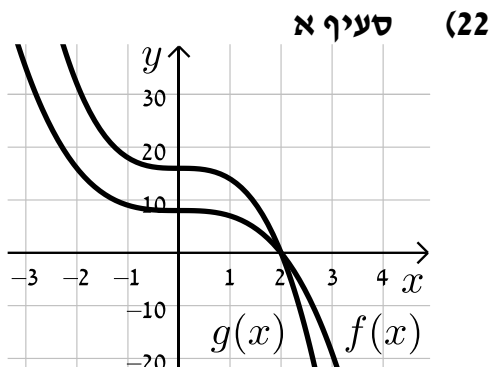
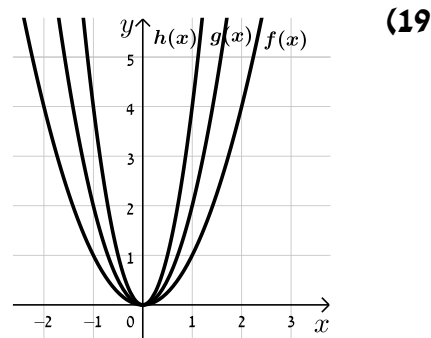
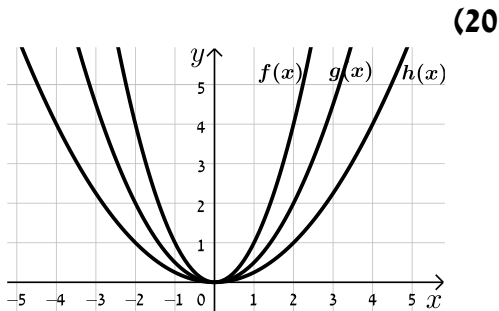
יורדת: $x < -1, x > 3$, נקודות חיתוך עם הצירים: $(0, -2), (1, 0)$, אסימפטוטות: $y=0$.

ג. סרטוט בסוף. ד. סרטוט בסוף.

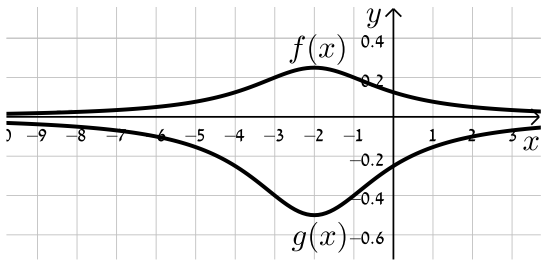
28 $a:k=1, b:k=2, c:k=4$

29 א. סרטוט בסוף. ב. לא הייתה מתקבלת אותה הפונקציה.

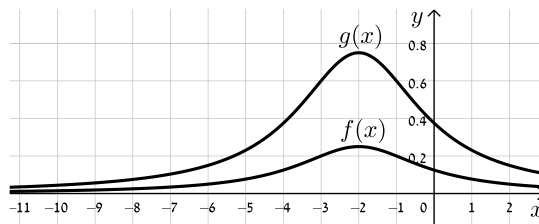
סרטטים מרוכזים לפי מספרי שאלות:



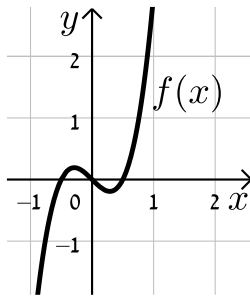
סעיף ח (24)



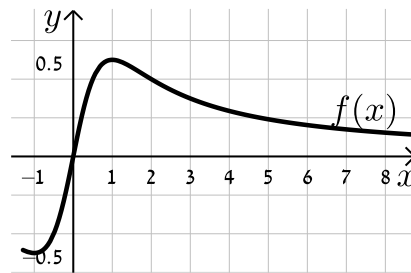
סעיף ח (23)



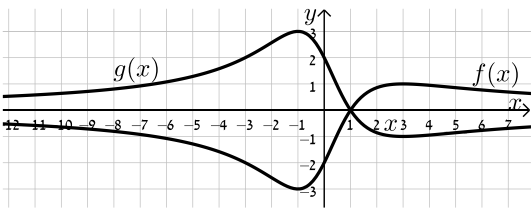
(26)



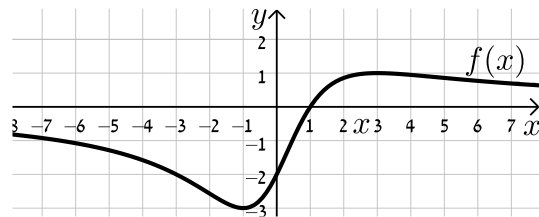
(25)



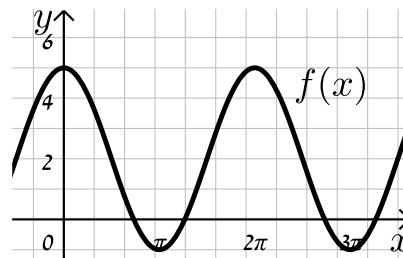
סעיף ד (27)



סעיף ג (27)



(29)



הזזת פונקציה ימינה ושמאלה:

שאלות:

(30) לפניך הפונקציה: $f(x) = x^2$.

סרטט במערכת צירים אחת את גרף הפונקציה $f(x)$ ואת הגרפים של הפונקציות: $g(x) = f(x-2)$ ו- $h(x) = f(x+3)$.

(31) נתונה הפונקציה: $f(x) = x^2$.

א. כתוב ביטוי מפורט לפונקציה המתקבלת מהזזת $f(x)$ 3 יחידות ימינה ו-4 יחידות למעלה.

ב. כתוב ביטוי מפורט לפונקציה המתקבלת מהזזת $f(x)$ 4 יחידות שמאלה ו-2 יחידות למטה.

ג. כתוב ביטוי מפורט לפונקציה המתקבלת מהזזת $f(x)$ $\frac{1}{2}$ יחידה שמאלה ולמעלה.

(32) נתונה פונקציה $f(x) = x^2$. מזיזים את הפונקציה ומקבלים: $g(x) = f(x+a)+b$.

כאשר a ו- b הם פרמטרים השונים מאפס.

א. מצא את ערכי הפרמטרים a ו- b אם ידוע כי: $g(x) = x^2 + 2x$.

ב. מצא את ערכי הפרמטרים a ו- b אם ידוע כי: $g(x) = x^2 - 4x + 7$.

(33) מזיזים את גרף הפונקציה $f(x) = \sqrt{x}$ 5 יחידות ימינה כך שמתקבלת הפונקציה $g(x)$.

א. כתוב באופן מפורש את הפונקציה $g(x)$.

ב. מצא בכמה יחידות יש להזיז את גרף הפונקציה $f(x)$ שמאלה על מנת

שיחתוך את ציר ה- y בנקודה שבה $y = 1$.

(34) נתונה הפונקציה: $f(x) = \frac{x^2 - 3x}{x+1}$.

א. כתוב את תחום ההגדרה של $f(x)$ ואת האסימפטוטות המקבילות לצירים.

ב. מצא את שיעורי נקודות הקיצון של הפונקציה וקבע את סוגן.

ג. כתוב את תחומי העלייה והירידה של הפונקציה.

ד. מצא את נקודות החיתוך של גרף הפונקציה עם הצירים.

- ה. סרטט סקיצה של גרף הפונקציה.
- ו. מגדירים את הפונקציה: $g(x) = f(x-1)$.
- i. כתוב באופן מפורש את הפונקציה $g(x)$.
- ii. על סמך ממצאיך מהסעיפים הקודמים, סרטט את גרף הפונקציה $g(x)$.

(35) לפניך הפונקציה: $f(x) = \frac{x^3}{x-4}$.

- א. חקור את הפונקציה לפי הסעיפים הבאים:
- i. מציאת תחום ההגדרה של הפונקציה.
- ii. נקודות קיצון של הפונקציה וקביעת סוגן.
- iii. תחומי עלייה וירידה של גרף הפונקציה.
- iv. מציאת נקודות חיתוך עם הצירים.
- v. מציאת אסימפטוטות המקבילות לצירים.
- vi. סרטוט סקיצה של גרף הפונקציה.
- ב. סרטט את גרף הפונקציה $g(x) = \frac{(x+2)^3}{x-2}$ על סמך הסעיפים הקודמים.

(36) מזיזים את הפונקציה: $f(x) = \sin x + \cos x$ במספר יחידות a כך שיש לה נקודת מקסימום על ציר ה- y .

- א. מצא בכמה יחידות יש להזיז את הפונקציה $f(x)$ על מנת שתקיים את הדרישה וקבע האם התזוזה היא ימינה או שמאלה. נמק.
- האם קיים רק ערך אחד של הפרמטר a אשר מקיים את דרישה זו?
- ב. היעזר בזהות: $\cos \alpha + \cos \beta = 2 \cos \frac{\alpha + \beta}{2} \cos \frac{\alpha - \beta}{2}$ והראה כי הפונקציה המוזזת יכולה להיות מיוצגת ע"י $g(x) = k \cos x$ ומצא את ערך הפרמטר k .

תשובות סופיות:

(30) סרטוט בסוף.

(31) א. $g(x) = x^2 - 6x + 13$ ב. $g(x) = x^2 + 8x + 14$ ג. $g(x) = x^2 + x + \frac{3}{4}$

(32) א. $a = 1, b = -1$ ב. $a = -2, b = 3$

(33) א. $g(x) = \sqrt{x-5}$ ב. 1

(34) א. תחום הגדרה: $x \neq -1$, אסימפטוטות: $x = -1$

ב. נקודות קיצון: $\min(1, -1), \max(-3, -9)$

ג. עולה: $x < -3, x > 1$, יורדת: $-3 < x < -1, -1 < x < 1$

ד. נקודות חיתוך עם הצירים: $(0, 0), (3, 0)$

ה. סרטוט בסוף ו. i. $g(x) = \frac{x^2 - 5x + 4}{x}$ ii. סרטוט בסוף

(35) א. i. תחום הגדרה: $x \neq 4$ ii. נקודת קיצון: $\min(6, 108)$

iii. עולה: $x > 6$, יורדת: $4 < x < 6, x < 4$

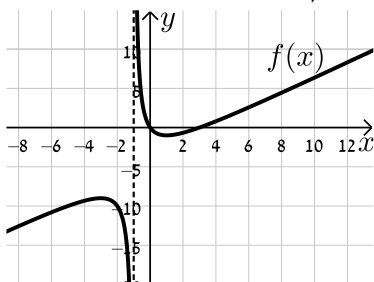
iv. נקודות חיתוך עם הצירים: $(0, 0)$

v. אסימפטוטות: $x = 4$ vi. סרטוט בסוף ב. סרטוט בסוף

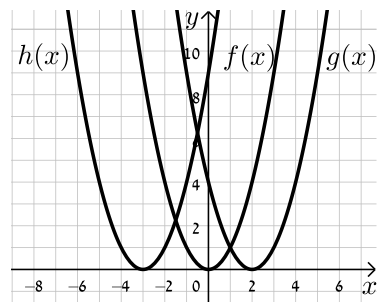
(36) א. $\frac{\pi}{4}$ יחידות. ב. $k = \sqrt{2}$

סרטוטים מרוכזים לפי מספרי שאלות:

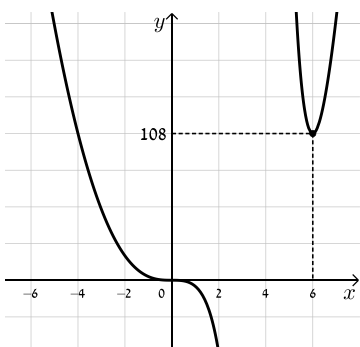
(34) סעיף ה



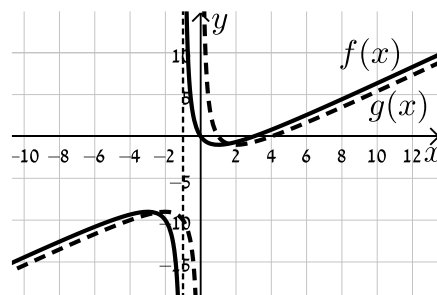
(30)

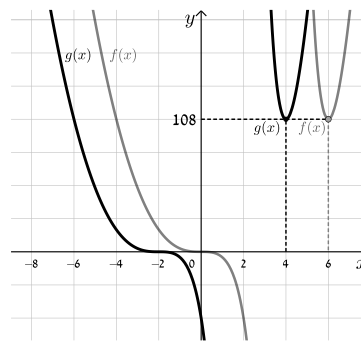


(35) סעיף א. iv.



(34) סעיף ו. ii.



35) סעיף ב

מתיחה וכיווץ של פונקציה:

שאלות:

37 נתונה הפונקציה: $f(x) = x^2$. כתוב באופן מפורש וסרטט במערכת צירים אחת את

$$. h(x) = f\left(\frac{x}{2}\right), g(x) = f(2x)$$

38 נתונה הפונקציה: $f(x) = 6x - 2x^2$. כתוב באופן מפורש וסרטט במערכת צירים אחת

$$. h(x) = f\left(\frac{x}{4}\right), g(x) = f(2x)$$

39 נתונה הפונקציה: $f(x) = 12x - 3x^3$. רוצים לכווץ את הפונקציה כך שנקודת החיתוך החיובית שלה עם ציר ה- x תקטן פי 4. כתוב פונקציה ממושטת המתארת את הכיווץ הנ"ל.

40 הפונקציה: $f(x) = \frac{x^4 - 8x}{16}$ חותכת את ציר ה- x בחלקו החיובי בנקודה A.

מצא כיווץ של הפונקציה כך ששיעורי הנקודה A יהיו $(1,0)$.

41 נתונה הפונקציה: $f(x) = 6x - x^2$. רוצים לכווץ אותה פי k כך שנקודת החיתוך שלה

עם ציר ה- x שאינה ראשית הצירים תקטן פי 3. נסמן את הפונקציה המכווצת ב- g .

א. מצא את ערכו של הפרמטר k .

ב. כתוב את הפונקציה המכווצת $g(x)$ בצורה מפורשת.

ג. סרטט את הפונקציות $f(x)$ ו- $g(x)$ באותה מערכת צירים.

ד. הראה כיצד משתנה נקודת הקיצון במקרה זה.

(42) גרף הפונקציה $f(x) = \sqrt{ax - x^2}$, $a \neq 0$ חותך את ציר ה- x בנקודה A שאינה בראשית הצירים, וגרף הפונקציה $g(x) = f(4x)$ חותך את ציר ה- x בנקודה B שאינה בראשית הצירים. ידוע כי $x_B = 3$.

א. מצא את ערך הפרמטר a וחקור את הפונקציה $f(x)$ לפי הסעיפים הבאים:

- i. תחום הגדרה.
 - ii. נקודות קיצון (מקומיות ומוחלטות אם ישנן) וקביעת סוגן.
 - iii. תחומי עלייה וירידה.
 - iv. סרטוט סקיצה של גרף הפונקציה.
- ב. היעזר בתוצאות הסעיף הקודם וסרטוט סקיצה של גרף הפונקציה $g(x)$.
נמק כל שלב בקביעותיך.

(43) מותחים את הפונקציה $f(x) = \sqrt{4 - 3x - x^2}$ פי k , $k > 1$ כך שמתקבלת הפונקציה $g(x)$. ידוע כי תחום ההגדרה של $g(x)$ הוא: $-16 \leq x \leq 4$.

- א. מצא את k .
- ב. האם לגרפים של הפונקציות $f(x)$ ו- $g(x)$ אותה נקודת קיצון מקומית?
אם כן – מהי? אם לא – נמק קביעותיך.

(44) נתונה הפונקציה: $f(x) = \frac{3}{x^2 + 8x + 12}$ ומגדירים את: $g(x) = f(x/4)$ ו- $h(x) = f(3x)$.

- א. חקור את $f(x)$ לפי: תחום הגדרה, אסימפטוטות המקבילות לצירים, נקודות חיתוך עם הצירים, נקודות קיצון וסוגן, תחומי עלייה וירידה.
- ב. היעזר בסעיפים הקודמים וענה על השאלות הבאות:
- i. מהו הקשר בין האסימפטוטות של הפונקציות $g(x)$ ו- $h(x)$ לבין האסימפטוטות של הפונקציה $f(x)$?
 - ii. מהו הקשר בין נקודות הקיצון של הפונקציות $g(x)$ ו- $h(x)$ לבין נקודות הקיצון של הפונקציה $f(x)$?
 - ג. סרטוט במערכת צירים אחת את הגרפים של $f(x)$ ושל $g(x)$ ו- $h(x)$.

(45) נתונה הפונקציה: $f(x) = \frac{1}{a \sin^2 x + 1}$, $a > 0$.

- א. מצא את ערך הפרמטר a אם ידוע כי לפונקציה ערך מינימלי של $\frac{1}{5}$.
- ב. הראה כי לפונקציה נקודות מקסימום המקיימות: $x_{\max} = \pi k$, k שלם. וכי הערך המירבי של הפונקציה הוא 1.
- ג. מגדירים פונקציה: $g(x) = B \cdot f(x/m)$ אשר מקיימת:
- i. נקודות המקסימום של הפונקציה מקיימות: $x_{\max} = \frac{\pi}{2} k$, k שלם
 - ii. הערך המירבי של הפונקציה הוא 2.
- מצא את ערכי הפרמטרים m ו- B .

תשובות סופיות:

(37) $g(x) = 4x^2, h(x) = \frac{x^2}{4}$

(38) $g(x) = 12x - 8x^2, h(x) = 1\frac{1}{2}x - \frac{x^2}{8}$

(39) $f(4x) = 48 - 192x^3$

(40) $f(2x) = x^4 - x$

(41) א. $k = 3$ ב. $g(x) = 18x - 9x^2$ ג. סרטוט בסוף

ד. ערך ה- x של נקודת הקיצון מתכווץ פי 3 (במקום $\max(3,9)$ הופך ל- $\max(1,9)$).

(42) א. $a = 12$ i. תחום הגדרה: $0 \leq x \leq 12$ ii. נקודת קיצון: $\min(12,0)$

קצה, $\max(6,6)$, $\min(0,0)$ קצה, iii. עולה: $0 < x < 6$, יורדת:

iv. סרטוט בסוף ב. סרטוט בסוף $6 < x < 12$

(43) א. $k = 4$ ב. לגרפים אין את אותה נקודת קיצון. ערך ה- x של נקודת

הקיצון של $g(x)$ גדל פי 4 ביחס ל- $f(x)$ (מ- $x_{\max} = -1.5$ ל- $x_{\max} = -6$) עקב חלוקת ה- x ב-4, כמו כל הנקודות בפונקציה (וערך ה- y נותר ללא שינוי).

(44) א. תחום הגדרה: $x \neq -2, -6$, אסימפטוטות: $x = -2, -6, y = 0$, נקודות חיתוך עם

הצירים: $\left(0, \frac{1}{4}\right)$, נקודת קיצון: $\max\left(-4, -\frac{3}{4}\right)$, עולה: $-6 < x < -4, x < -6$,

יורדת: $x > -2, -4 < x < -2$ ב. i. האסימפטוטה האופקית

נותרת ללא שינוי. האסימפטוטות האנכיות משתנות ב- $g(x)$ הן מוכפלות ב-4

וב- $h(x)$ הן מחולקות ב-3. ii. ערך ה- x של נקודת הקיצון

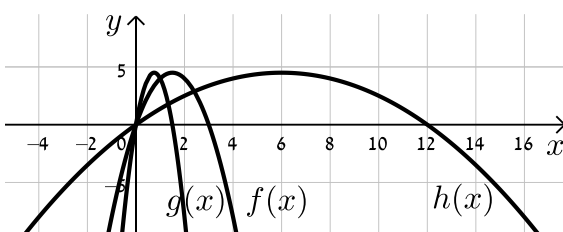
משתנה: ב- $g(x)$ הוא מוכפל ב-4 וב- $h(x)$ הוא מחולק ב-3. ערך ה- y של נקודת

הקיצון נותר ללא שינוי וכך גם סוג הקיצון. ג. סרטוט בסוף.

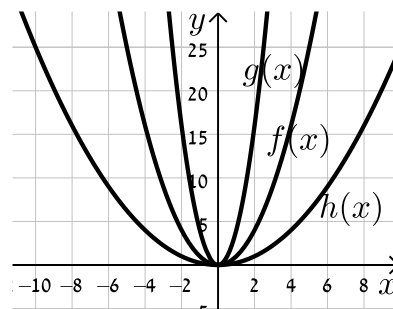
(45) א. $a = 4$ ב. הוכחה. ג. i. $(0,2)$ ii. $m = \frac{1}{2}, B = 2$

סרטוטים מרוכזים לפי מספרי שאלות:

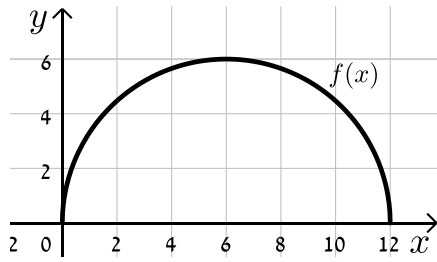
(38)



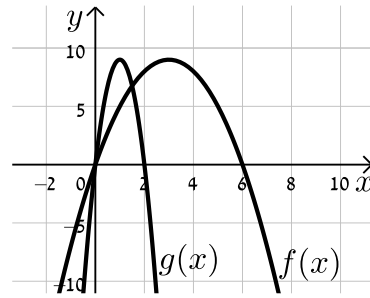
(37)



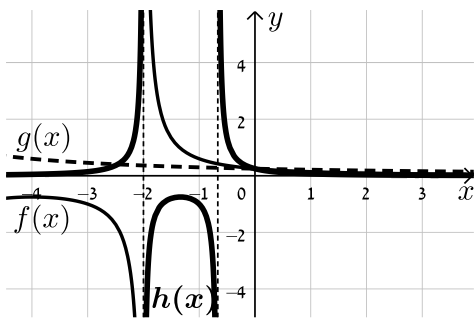
(42) סעיף א. iv.



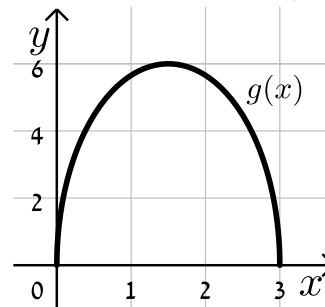
(41)



(44)



(42) סעיף ב.



היפוך גרף פונקציה ביחס לציר y:

שאלות:

46 סרטט במערכת צירים אחת את הפונקציות: $f(x) = (x-2)^2$ ו- $g(x) = f(-x)$ והראה כי ציר ה- y מהווה את ציר הסימטריה בין הגרפים.

47 שקף כל אחת מהפונקציות הבאות וכתוב ביטוי מפורט לכל אחת מהן:

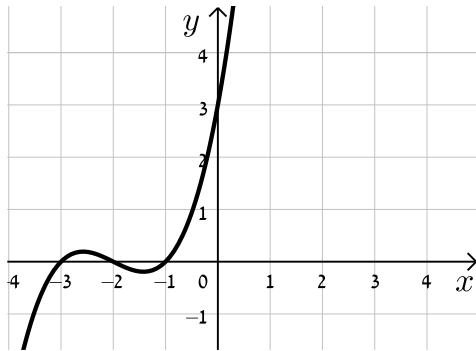
א. $f(x) = x^3 + 2x - 1$.

ב. $f(x) = \frac{x}{x+3}$.

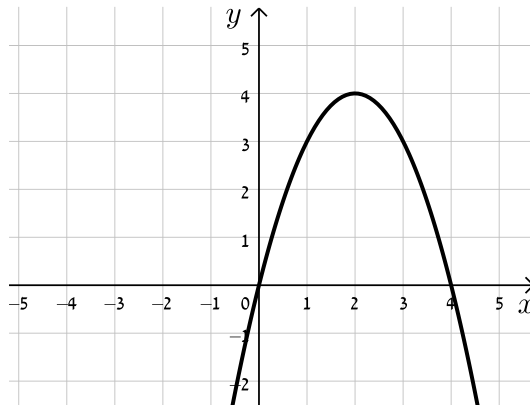
ג. $f(x) = \sqrt{4x - x^2}$.

48 לפניך סרטטים של פונקציות שונות. הוסף לכל מערכת צירים גרף משוקף ביחס לציר ה- y .

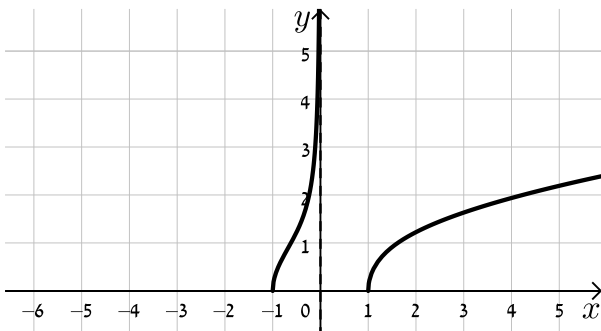
ב.



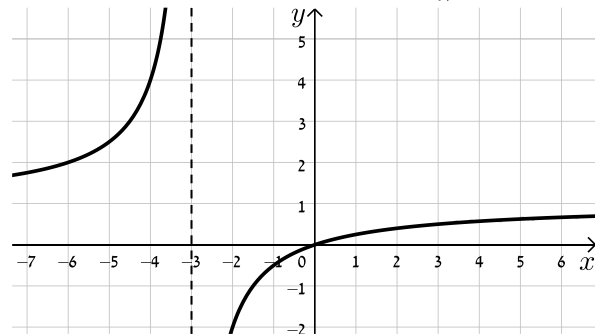
א.



ד.



ג.



49 נתונה הפונקציה: $f(x) = x^4 - 3x^3 + 2x^2$.

- מצא את נקודות החיתוך של גרף הפונקציה $f(x)$ עם ציר ה- x .
- שקף את הפונקציה וכתוב ביטוי מפורט של הפונקציה המתקבלת.
- הראה כי נקודות החיתוך עם ציר ה- x של הגרפים של הפונקציות $f(x)$ ושל הפונקציה המשוקפת שלה הם מספרים נגדיים.

50 נתונה הפונקציה: $f(x) = \sqrt{10x - x^2}$.

- סרטט במערכת צירים אחת את הגרפים של הפונקציות $f(x)$ ו- $g(x) = f(-x)$.
- ו- $h(x) = -f(x)$ והסבר איזה ציר מהווה סימטריה בכל מקרה ביחס ל- $f(x)$.

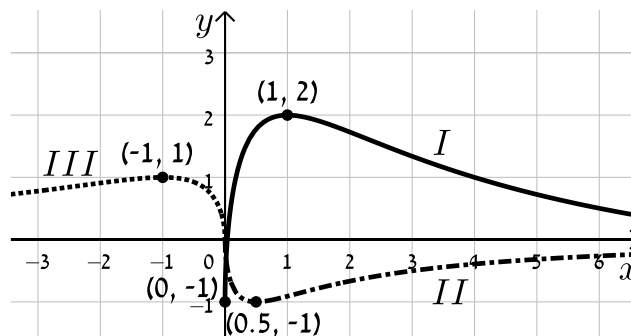
51 הראה כי הפונקציה $f(x) = x^4 + \sqrt{x^2 + 1}$ זהה לפונקציה $g(x) = f(-x)$ והסבר מה ניתן לומר על הגרפים של הפונקציות הללו ועל הסימטריה שלהן זו לזו ביחס לציר ה- y .

52 נתונה הפונקציה: $f(x) = \frac{18\sqrt{x}}{x^2 + 7x + 10}$.

- מצא את תחום ההגדרה של הפונקציה.
- מצא את נקודות הקיצון של הפונקציה ואת תחומי העלייה והירידה שלה.
- הראה כי הפונקציה חותכת את הצירים רק בראשית הצירים וכי ציר ה- x הוא האסימפטוטה האופקית שלה.
- סרטט סקיצה של גרף הפונקציה.
- לפניך מספר פונקציות:

- $g_1(x) = f(-x)$
- $g_2(x) = k \cdot f(x) + B$ כאשר: $k > 1, B \neq 0$
- $g_3(x) = -f(ax)$ כאשר: $a > 1$

באיור שלפניך מופיעים הגרפים של שלוש הפונקציות. התאם כל גרף לכל פונקציה ומצא את ערכי הפרמטרים a, k ו- b על בסיס הנתונים המספריים. נמק.



(53) נתונה הפונקציה: $f(x) = \frac{(x-a)^2}{(x-b)^3}$, $a \cdot b < 0$.

מגדירים פונקציה נוספת $g(x)$ המקיימת: $g(x) = f(ax)$.

- א. בטא באמצעות a ו- b את תחום ההגדרה של הפונקציה $g(x)$.
 - ב. מהן האסימפטוטות המאונכות לצירים של הפונקציה $g(x)$?
 - ג. הוכח כי לפונקציה $g(x)$ נקודת קיצון (x_0, y_0) המקיימת: $x_0 > 3$.
 - ד. נתון כי $x_0 = 7$. מצא את משוואת האסימפטוטה האנכית של הפונקציה (ללא פרמטרים).
 - ה. נתון כי $y_0 = -\frac{4}{81}$.
- i. מצא את ערכי הפרמטרים a ו- b .
 - ii. סרטט במערכת צירים אחת את הגרפים של הפונקציות $f(x)$ ו- $g(x)$. היעזר בהגדרת הפונקציה $g(x)$.

(54) נתונה הפונקציה: $f(x) = \frac{2x}{2\sqrt{x-2} - 2x + 1}$.

- א. מה הוא תחום ההגדרה של $f(x)$?
- ב. מצא את האסימפטוטות המקבילות לצירים של $f(x)$.
- ג. מצא את נקודת הקיצון של $f(x)$ ורשום את תחומי העלייה והירידה שלה.
- ד. סרטט סקיצה של גרף הפונקציה $f(x)$.
- ה. מגדירים את הפונקציות: $g(x) = f(ax)$ ו- $h(x) = f(x+a)$, a פרמטר. הנח $a = 1.5$ וענה על הסעיפים הבאים:
 - i. האם לכל הגרפים אותו תחום הגדרה? נמק.
 - ii. האם לכל הגרפים אותו סוג קיצון? נמק.
 - iii. לאיזה מבין הגרפים של הפונקציות הנ"ל תהיה נקודת קיצון בעלת שיעור x הקטן ביותר ולאיזה תהיה נקודת קיצון בעלת שיעור x הגדול ביותר? נמק איכותית.

תשובות סופיות:

(46) סרטוט בסוף.

(47) א. $f(-x) = -x^3 - 2x - 1$ ב. $f(-x) = \frac{x}{x-3}$ ג. $f(-x) = \sqrt{-4x - x^2}$

(48) סרטוט בסוף.

(49) א. $(0,0), (1,0), (2,0)$ ב. $f(-x) = x^4 + 3x^3 + 2x^2$ ג. הוכחה.

(50) סרטוט בסוף. ציר ה- y מהווה את ציר הסימטריה בין $f(x)$ ל- $g(x)$ וציר ה- x מהווה את ציר הסימטריה בין $f(x)$ ל- $h(x)$.

(51) הפונקציות זהות. עבור שתיהן ציר ה- y מהווה ציר סימטריה.

(52) א. תחום הגדרה: $0 \leq x$ ב. נקודות קיצון: $\max(1,1), \min(0,0)$ קצה,

עולה: $0 < x < 1$, יורדת: $x > 1$ ג. הוכחה. ד. סרטוט בסוף.

ה. $g_1(x) \leftrightarrow III, g_2(x) \leftrightarrow I, g_3(x) \leftrightarrow II, a=2, B=-1, k=3$

(53) א. תחום ההגדרה: $x \neq \frac{b}{a}$ ב. אסימפטוטות מאונכות: $x = \frac{b}{a}, y = 0$

ג. הוכחה ד. $x = -2$ ה. $a = -1, b = 2$

ii. סרטוט בסוף.

(54) א. $2 \leq x$ ב. אסימפטוטות מקבילות: $y = -1$

ג. נקודות קיצון: $\max\left(2, -1\frac{1}{3}\right), \min(3, -2)$, תחום עלייה: $3 < x$,

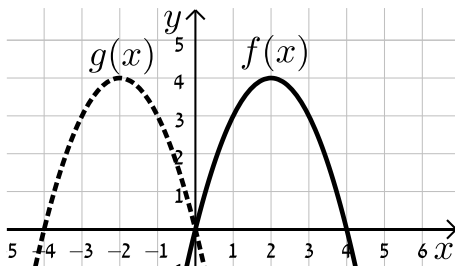
תחום ירידה: $2 < x < 3$ ד. סרטוט בסוף.

ה. i. לא: $h(x)x \geq \frac{1}{2}, g(x): x \geq 1\frac{1}{3}, f(x): x \geq 2$ ii. כן.

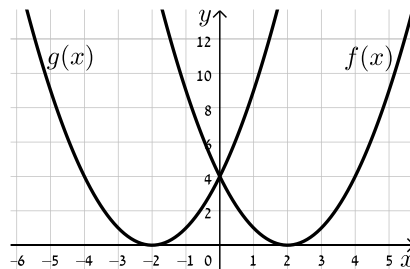
iii. ל- $f(x)$ השיעור הגבוה ביותר, ל- $h(x)$ השיעור הקטן ביותר.

סרטוטים מרוכזים לפי מספרי שאלות:

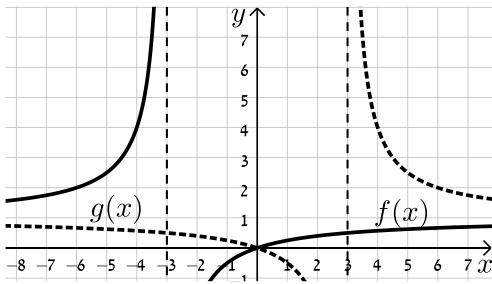
(48) סעיף א



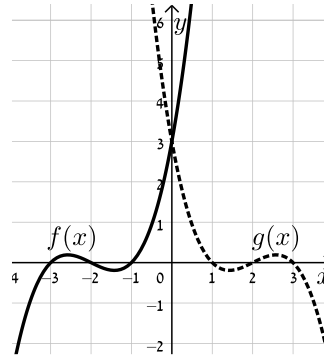
(46)



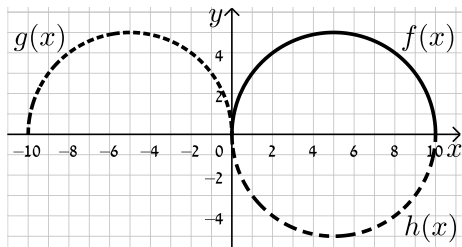
(48) סעיף ג



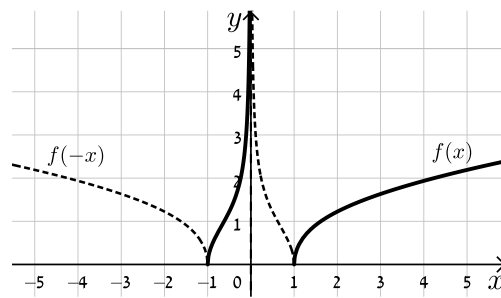
(48) סעיף ב



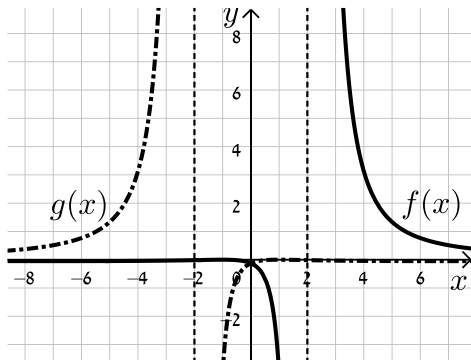
(50)



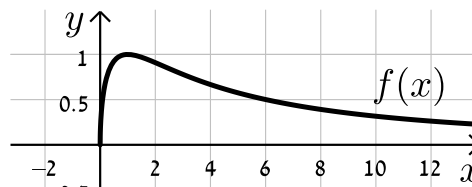
(49) סעיף ד



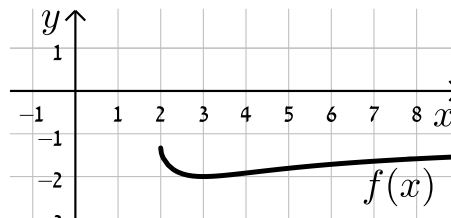
(53)



(52)



(54)



ערך מוחלט של פונקציה:

שאלות:

55 נתונות הפונקציות: $f(x) = x$ ו- $g(x) = |x|$.

- מצא את נקודת החיתוך של הגרפים עם ציר ה- x .
- סרטט את שני הגרפים במערכת צירים אחת והסבר מה ההבדל ביניהם.
- כיצד ישתנו הגרפים עבור: $f(x) = x - 2$?
- כיצד ישתנו הגרפים עבור: $f(x) = 3(x - 2)$?
- כיצד ישתנו הגרפים עבור: $f(x) = 3x - 2$?

56 סרטט במערכת צירים אחת את זוגות הפונקציות הבאות:

א. $f(x) = x^2 - 2x$ ו- $g(x) = |x^2 - 2x|$.

ב. $f(x) = x^3$ ו- $g(x) = |x^3|$.

ג. $f(x) = \frac{1}{x}$ ו- $g(x) = \left| \frac{1}{x} \right|$.

57 סרטט את הגרפים של הפונקציות: $f(x) = \tan x$ ו- $g(x) = |\tan x|$.

58 נתונה הפונקציה: $f(x) = \frac{1}{x}$ ועליה מבצעים את הפעולות הבאות:

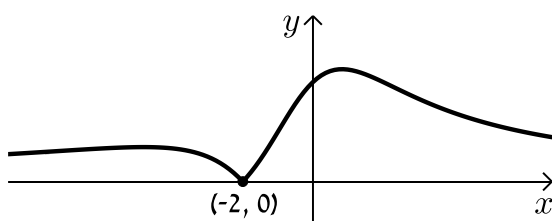
- מזיזים את הפונקציה $f(x)$ ב-3 יחידות ימינה.
- מורידים 4 יחידות מערך הפונקציה.
- לוקחים את הערך המוחלט של הפונקציה.
- א. סרטט סקיצה של גרף הפונקציה המתקבלת.
- ב. האם תשתנה התוצאה אם נחליף בין שתי הפעולות הראשונות?

59 נתונה הפונקציה: $f(x) = \frac{ax+2}{x^2+ax+6}$, $a \neq 0$.

באיור שלפניך מתואר גרף

הפונקציה $g(x) = |f(x)|$.

מצא את ערכו של הפרמטר a .



60 לפניך הפונקציה הבאה: $f(x) = \frac{x-1}{\sqrt{x}}$.

א. חקור את הפונקציה לפי הסעיפים הבאים:

i. תחום הגדרה.

ii. נקודות קיצון מקומיות וקצה (אם ישנן).

iii. תחומי עלייה וירידה.

iv. נקודות חיתוך עם הצירים (אם ישנן).

v. סרטט סקיצה של גרף הפונקציה.

ב. הוסף לאותה מערכת הצירים את הסקיצה של גרף הפונקציה: $g(x) = |f(-x)|$.

נמק את שיקוליך.

61 נתונה הפונקציה: $f(x) = \frac{\cos x}{\sin x + 1}$ בתחום $[-2\pi; 2\pi]$.

א. הראה כי הפונקציה יורדת בכל תחום הגדרתה.

ב. מצא את נקודות החיתוך של גרף הפונקציה עם הצירים.

ג. נתון כי לפונקציה יש שתי אסימפטוטות אנכיות בתחום הנתון. מצא את משוואותיהן.

ד. סרטט סקיצה של גרף הפונקציה.

ה. קבע בכמה נקודות חותך הישר $y = 1$ את גרף הפונקציה $|f(x)|$ בתחום הנתון.

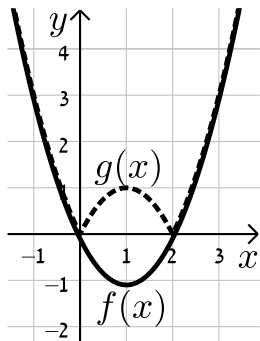
מצא את נקודות החיתוך.

תשובות סופיות:

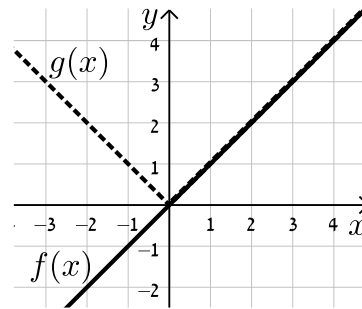
- (55) א. $(0,0)$ ב. סרטוט בסוף.
- (56) א. סרטוט בסוף. ב. סרטוט בסוף. ג. סרטוט בסוף.
- (57) סרטוט בסוף.
- (58) א. סרטוט בסוף ב. התוצאה לא תשתנה.
- (59) $a=1$.
- (60) א. i. תחום הגדרה: $0 < x$ ii. נקודת קיצון: אין.
- iii. עולה: $x > 0$ iv. נקודות חיתוך עם הצירים: $(1,0)$
- v. סרטוט בסוף ב. סרטוט בסוף.
- (61) א. הוכחה. ב. $(0,1)$, $(\frac{\pi}{2}, 0)$, $(-\frac{3\pi}{2}, 0)$ ג. $x = \frac{3\pi}{2}$, $-\frac{\pi}{2}$.
- ד. סרטוט בסוף. ה. 2 נקודות: $(\pi, -1)$, $(-\pi, -1)$.

סרטוטים מרוכזים לפי מספרי שאלות:

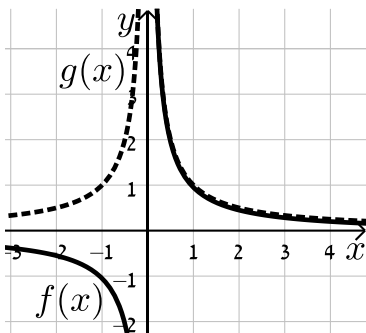
(56) סעיף א



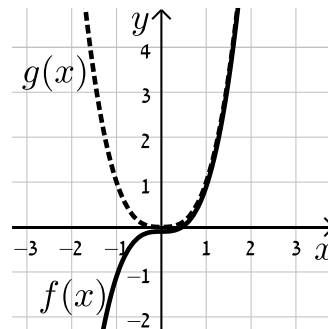
(55)



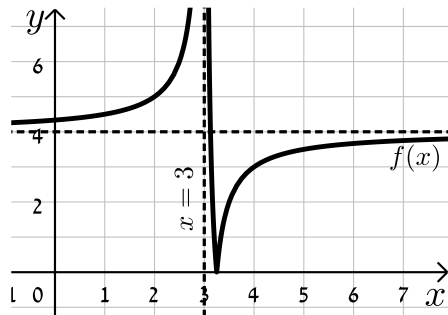
(56) סעיף ג



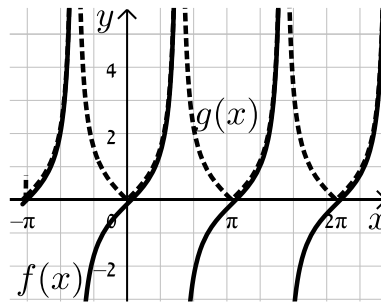
(56) סעיף ב



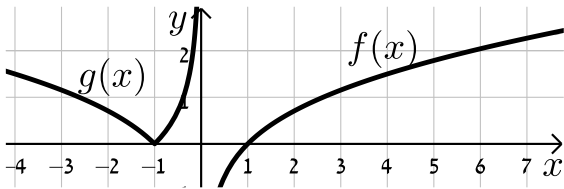
(58)



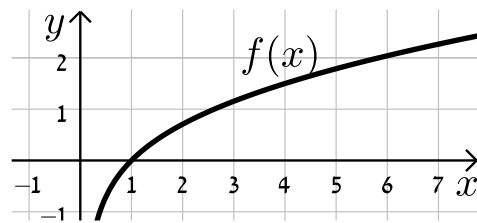
(57)



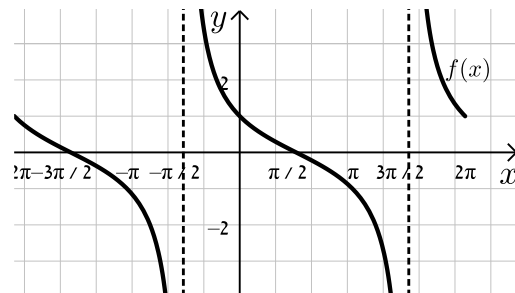
(60) סעיף ב



(60) סעיף א. v



(61)



מכינה במתמטיקה להנדסת מכונות

פרק 37 - חשבון דיפרנציאלי - פונקציות מעריכיות

תוכן העניינים

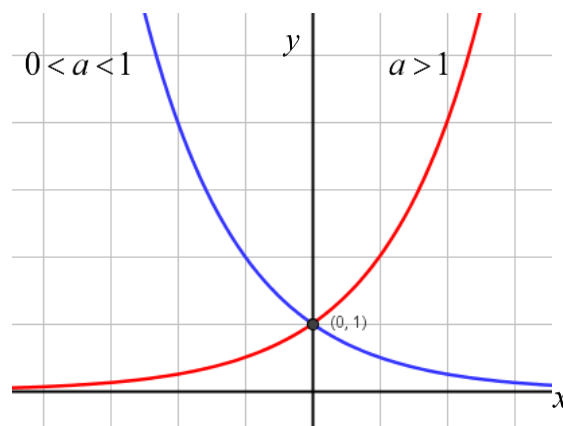
- 639 1. הנגזרת של פונקציה מעריכית.
- 643 2. שימושי הנגזרת.
- 644 3. חקירה של פונקציה מעריכית.

הנגזרת של פונקציה מעריכית:

סיכום כללי:

הגדרות כלליות:

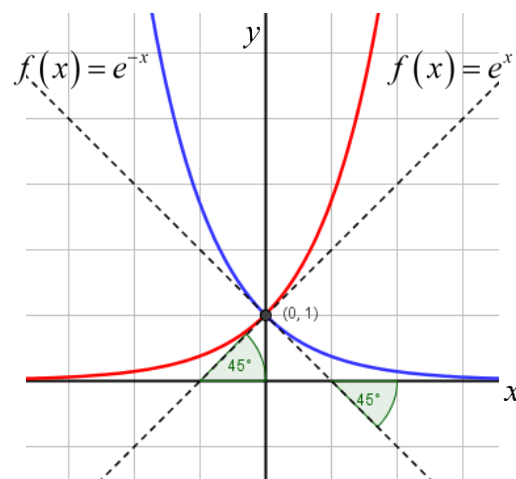
להלן תיאורים גרפיים של פונקציה מעריכית כללית מהצורה: $f(x) = a^x$
 עבור: $a > 1$ ו- $0 < a < 1$:



תכונות כלליות:

1. הפונקציות מוגדרות לכל x .
2. הפונקציות תמיד חיוביות.
3. הפונקציות תמיד חותכות את ציר ה- y בנקודה: $(0, 1)$.
4. עבור: $a > 1$ הפונקציה עולה בכל ת.ה. ועבור: $0 < a < 1$ הפונקציה יורדת בכל ת.ה.

עבור הפונקציות $f(x) = e^x$ ו- $f(x) = e^{-x}$ נקבל:



תכונות נוספות:

1. שיפוע המשיק לגרף הפונקציה $f(x) = e^x$ בנקודת החיתוך עם ציר ה- y הוא 1.
2. שיפוע המשיק לגרף הפונקציה $f(x) = e^{-x}$ בנקודת החיתוך עם ציר ה- y הוא -1.

נגזרות של פונקציות מעריכיות:

הפונקציה	הנגזרת
$y = a^x$	$y' = a^x \cdot \ln a$
$y = a^{f(x)}$	$y' = a^{f(x)} \cdot f'(x) \cdot \ln a$
$y = e^x$	$y' = e^x$
$y = e^{f(x)}$	$y' = e^{f(x)} \cdot f'(x)$

תזכורת - כללי הגזירה:

מספר כלל	הפונקציה	תיאור	הנגזרת
1.	$y = a \cdot f(x)$	מכפלה בקבוע	$y' = a \cdot f'(x)$
2.	$y = f(x) + g(x)$	סכום פונקציות	$y' = f'(x) + g'(x)$
3.	$y = f(x) \cdot g(x)$	מכפלת פונקציות	$y' = f'(x) \cdot g(x) + f(x) \cdot g'(x)$
4.	$y = \frac{f(x)}{g(x)}$	מנת פונקציות	$y' = \frac{f'(x) \cdot g(x) - f(x) \cdot g'(x)}{(g(x))^2}$
5.	$y = f(g(x))$	פונקציה מורכבת	$y' = f'(g(x)) \cdot g'(x)$

שאלות:

(1) גזור את הפונקציות הבאות (סכום פונקציות):

$$\begin{array}{ll} \text{א. } f(x) = 3e^x + e^{2x} + e^{-x} + 2x + 1 & \text{ב. } f(x) = e^{x^2-3x} + ex \\ \text{ג. } f(x) = 2^{3x} & \text{ד. } f(x) = 3^{x^2} + 4^{-x} \end{array}$$

(2) גזור את הפונקציות הבאות (מכפלת פונקציות):

$$\text{א. } f(x) = x \cdot e^x \quad \text{ב. } f(x) = x^2 \cdot e^{4x} \quad \text{ג. } f(x) = (x+1) \cdot 2^x$$

(3) גזור את הפונקציות הבאות (מנת פונקציות):

$$\text{א. } f(x) = \frac{x^2}{e^x} \quad \text{ב. } f(x) = \frac{e^x}{e^x + 1}$$

(4) גזור את הפונקציות הבאות (פונקציה מורכבת):

$$\text{א. } f(x) = 5(e^{2x} - 1)^3 \quad \text{ב. } f(x) = \sqrt{e^{2x} + e^{-2x}} \quad \text{ג. } f(x) = \frac{e^{3x}}{\sqrt{e^x + 1}}$$

(5) גזור את הפונקציות הבאות (שאלות שונות):

$$\begin{array}{ll} \text{א. } f(x) = e^{2x} & \text{ב. } f(x) = e^x + 1 \\ \text{ג. } f(x) = e^{\frac{1}{x}} & \text{ד. } f(x) = (x^2 + 1)e^x \\ \text{ה. } f(x) = e^{-x}(x^2 + 4x + 1) & \text{ו. } f(x) = e^{3x-2} \\ \text{ז. } f(x) = e^x \cdot \frac{1}{x} & \text{ח. } f(x) = x^3 e^{2x} \\ \text{ט. } f(x) = e^{-2x}(x+4) & \text{י. } f(x) = e^{2x+1}(1-x) \\ \text{יא. } f(x) = \frac{1}{\frac{1}{e^x}} & \text{יב. } f(x) = \frac{x^3}{e^{3x}} \\ \text{יג. } f(x) = \frac{2+x^2}{e^{x^2}} & \text{יד. } f(x) = \frac{e^x - e^{-x}}{e^{-x} + e^x} \\ \text{טו. } f(x) = \frac{x^2+1}{e^{-x}} & \text{טז. } f(x) = \frac{e^x}{1-e^{x+1}} \end{array}$$

תשובות סופיות:

(1) א. $3e^x + 2e^{2x} - e^{-x} + 2$ ב. $(2x-3)e^{x^2-3x} + e$ ג. $3\ln 2 \cdot 2^{3x}$ ד. $2x \ln 3 \cdot 3^{x^2} - \ln 4 \cdot 4^{-x}$

(2) א. $(1+x)e^x$ ב. $2xe^{4x}(1+2x)$ ג. $2^x(1+x\ln 2 + \ln 2)$

(3) א. $\frac{x(2-x)}{e^x}$ ב. $\frac{e^x}{(e^x+1)^2}$

(4) א. $30e^{2x}(e^{2x}-1)^2$ ב. $\frac{e^{2x}-e^{-2x}}{\sqrt{e^{2x}+e^{-2x}}}$ ג. $\frac{5e^{4x}+6e^{3x}}{2\sqrt{(e^x+1)^3}}$

(5) א. $2e^{2x}$ ב. e^x ג. $-\frac{e^{1/x}}{x^2}$ ד. $(x+1)^2 e^x$

ה. $e^{-x}(-x^2-2x+3)$ ו. $3e^{3x-2}$

ז. $\frac{e^x(x-1)}{x^2}$ ח. $x^2 e^{2x}(3+2x)$ ט. $-e^{-2x}(2x+7)$

י. $e^{2x+1}(1-2x)$

יא. $\frac{e^{-1/x}}{x^2}$ יב. $\frac{3x^2(1-x)}{e^{3x}}$ יג. $\frac{-2x(x^2+1)}{e^{x^2}}$

יד. $\frac{4}{(e^x+e^{-x})^2}$ טו. $\frac{(x+1)^2}{e^{-x}}$ טז. $\frac{e^x}{(1-e^{x+1})^2}$

שימושי הנגזרת:

שאלות:

- (6) מצא את משוואת המשיק לפונקציה $f(x) = e^x$ בנקודה $A(1, e)$.
- (7) מצא את משוואת המשיק לפונקציה $f(x) = e^{2x} + xe^{-x}$ בנקודה שבה $x = 0$.
- (8) מצא את משוואות המשיקים לפונקציה $f(x) = (e+1)e^x - e^{2x}$ בנקודות החיתוך של הפונקציה עם הישר $y = e$.
- (9) נתונה הפונקציה: $y = e^{2x} + 3ex$.
 לפונקציה העבירו משיק דרך הנקודה שבה: $x = 2$.
 מצא את משוואת המשיק.
- (10) שיפוע המשיק לפונקציה $f(x) = a \cdot 3^{2x-1} + 3^{x-b}$ בנקודה $(1, 15)$ הוא $21 \ln 3$.
 מצא את ערכי הפרמטרים a ו- b .

תשובות סופיות:

- (6) $y = ex$
- (7) $y = 3x + 1$
- (8) $y = (-e^2 + e)x + e^2$, $y = (e-1)x + e$
- (9) $y = 2e^4x + 3ex - 3e^4$
- (10) $b = -1$, $a = 2$

חקירה של פונקציה מעריכית:

שאלות:

(11) מצא את תחום ההגדרה של הפונקציות הבאות:

$$\begin{array}{lll}
 \text{א. } f(x) = \frac{2x-1}{e^x} & \text{ב. } f(x) = \frac{3}{e^x-1} & \text{ג. } f(x) = \frac{x+1}{e^x-5} \\
 \text{ד. } f(x) = \frac{1}{e^{2x}-3e^x+2} & \text{ה. } f(x) = \frac{e^x-e^{-x}}{e^x+e^x} & \text{ו. } f(x) = \frac{\sqrt{e^x-1}}{5x-2} \\
 \text{ז. } f(x) = \sqrt{e^{2x}-4e^x+3} & &
 \end{array}$$

(12) מצא את נקודות הקיצון של הפונקציה הבאה: $f(x) = x^2 e^x$.

(13) מצא את נקודת הקיצון של הפונקציה הבאה: $f(x) = \frac{e^x}{x-2}$.

(14) נתונה הפונקציה: $f(x) = \frac{ax^2+bx+9}{e^x}$.

הפונקציה משיקה לציר ה- x בנקודה שבה $x = 1.5$. מצא את ערכי הפרמטרים a ו- b ואת נקודות הקיצון של הפונקציה.

(15) נתונה הפונקציה: $f(x) = 8^x + p \cdot 2^x + q$. לפונקציה יש נקודת קיצון בנקודה $(\log_2 3, -19)$. מצא את ערכי הפרמטרים p ו- q .

(16) מצא את האסימפטוטות של הפונקציה הבאה: $f(x) = e^{2x} + e^x$.

(17) מצא את האסימפטוטות של הפונקציה הבאה: $f(x) = \frac{e^x + e^{-x}}{e^{2x}}$.

(18) מצא את האסימפטוטות של הפונקציה הבאה: $f(x) = \frac{e^x + 5}{e^x - 1}$.

(19) מצא את האסימפטוטות של הפונקציה הבאה: $f(x) = \frac{e^{2x} + 1}{e^x - 5}$

(20) מצא את האסימפטוטות של הפונקציה הבאה: $f(x) = \frac{e^x - e^{-x}}{e^x + e^{-x}}$

(21) מצא את האסימפטוטות של הפונקציה הבאה: $f(x) = \frac{e^x - 2}{e^{2x} - 5e^x + 6}$

(22) מצא את האסימפטוטות של הפונקציה הבאה: $f(x) = \frac{e^x}{x^2}$

(23) מצא את האסימפטוטות של הפונקציה הבאה: $f(x) = \frac{x^3 - 1}{e^x}$

(24) מצא את האסימפטוטות של הפונקציה הבאה: $f(x) = \frac{x-1}{e^{3x} - e}$

(25) מצא את האסימפטוטות של הפונקציה הבאה: $f(x) = (x-3)e^x$

(26) מצא את האסימפטוטות של הפונקציה הבאה: $f(x) = xe^{\frac{1}{x}}$

(27) נתונה הפונקציה: $f(x) = \frac{x^2 + a}{be^x}$. לפונקציה יש נקודת פיתול בנקודה $(1, \frac{2}{e})$. מצא את ערכי הפרמטרים a ו- b ואת נקודת הפיתול השנייה של הפונקציה.

(28) חקור את הפונקציות הבאות עפ"י הסעיפים הבאים:

1. מציאת תחום ההגדרה של הפונקציה.
2. מציאת נקודות החיתוך של גרף הפונקציה עם הצירים.
3. מציאת נקודות הקיצון של הפונקציה וקביעת סוגן.
4. כתיבת תחומי העלייה והירידה של הפונקציה.

$$f(x) = (x^2 + 1)e^x \quad \text{ב.} \qquad f(x) = (x-1)e^x \quad \text{א.}$$

$$f(x) = e^{x^2-x} \quad \text{ד.} \qquad f(x) = x^2 e^{-\frac{1}{4}x^2} \quad \text{ג.}$$

$$f(x) = \frac{e^{2x} + 1}{e^{x+1}} \quad \text{ו.} \qquad f(x) = \frac{2}{e^{x^2} + 1} \quad \text{ה.}$$

(29) נתונה הפונקציה $f(x) = (x-3)e^x$. חקור על פי הסעיפים הבאים:

- א. מציאת תחום ההגדרה של הפונקציה.
- ב. מציאת נקודות הקיצון של הפונקציה.
- ג. תחומי עלייה וירידה של הפונקציה.
- ד. נקודות חיתוך של גרף הפונקציה עם הצירים.
- ה. סרטוט סקיצה של גרף הפונקציה.

(30) נתונה הפונקציה $f(x) = e^{2x} - 8e^x + 6x + 10$. חקור על פי הסעיפים הבאים:

- א. מציאת תחום ההגדרה של הפונקציה.
- ב. מציאת נקודות הקיצון של הפונקציה.
- ג. תחומי עלייה וירידה של הפונקציה.
- ד. מציאת נקודת החיתוך של גרף הפונקציה עם ציר ה- y .
- ה. סרטוט סקיצה של גרף הפונקציה.

(31) נתונה הפונקציה $f(x) = \frac{4x}{e^{0.5x^2}}$. חקור על פי הסעיפים הבאים:

- א. מציאת תחום ההגדרה של הפונקציה.
- ב. מציאת נקודות הקיצון של הפונקציה.
- ג. תחומי עלייה וירידה של הפונקציה.
- ד. נקודות חיתוך של גרף הפונקציה עם הצירים.
- ה. סרטוט סקיצה של גרף הפונקציה.

(32) נתונה הפונקציה $f(x) = \frac{x^3}{e^x}$. חקור על פי הסעיפים הבאים:

- א. מציאת תחום ההגדרה של הפונקציה.
- ב. מציאת נקודות הקיצון של הפונקציה.
- ג. תחומי עלייה וירידה של הפונקציה.
- ד. נקודות חיתוך של גרף הפונקציה עם הצירים.
- ה. סרטוט סקיצה של גרף הפונקציה.

(33) נתונה הפונקציה $f(x) = 2x \cdot 3^x$. חקור את הפונקציה על פי הסעיפים הבאים:

- א. מציאת תחום ההגדרה של הפונקציה.
- ב. מציאת נקודות הקיצון של הפונקציה.
- ג. תחומי עלייה וירידה של הפונקציה.
- ד. נקודות חיתוך של גרף הפונקציה עם הצירים.
- ה. סרטוט סקיצה של גרף הפונקציה.

(34) נתונה הפונקציה $f(x) = 2e^{\frac{x}{x^2+1}}$. חקור את הפונקציה על פי הסעיפים הבאים:

- א. מציאת תחום ההגדרה של הפונקציה.
- ב. מציאת נקודות הקיצון של הפונקציה.
- ג. תחומי עלייה וירידה של הפונקציה.
- ד. נקודות חיתוך של גרף הפונקציה עם הצירים.
- ה. מציאת אסימפטוטות המקבילות לצירים.
- ו. סרטוט סקיצה של גרף הפונקציה.
- ז. לאלו ערכי m יש למשוואה $f(x) = m$ בדיוק פתרון אחד?

(35) נתונה הפונקציה $f(x) = x^2 e^{\frac{1}{x}}$. חקור את הפונקציה על פי הסעיפים הבאים:

- א. מציאת תחום ההגדרה של הפונקציה.
- ב. מציאת נקודות הקיצון של הפונקציה.
- ג. תחומי עלייה וירידה של הפונקציה.
- ד. נקודות חיתוך של גרף הפונקציה עם הצירים.
- ה. מציאת אסימפטוטות המקבילות לצירים.
- ו. מציאת נקודות פיתול של הפונקציה.
- ז. כתיבת תחומי הקעירות כלפי מעלה ומטה.

ח. סרטוט סקיצה של גרף הפונקציה.

$$(36) \text{ נתונה הפונקציה: } f(x) = \frac{e^{3x}}{12x^2 + 1}$$

- מצא את תחום ההגדרה של הפונקציה.
- מצא את נקודות הקיצון של הפונקציה וקבע את סוגן.
- כתוב את תחומי עלייה וירידה של הפונקציה.
- מצא את נקודות חיתוך של גרף הפונקציה עם הצירים.
- סרטוט סקיצה של גרף הפונקציה.

$$(37) \text{ שיפוע המשיק לגרף הפונקציה: } f(x) = \frac{1}{e^{3x^2+6x+k}} \text{ בנקודה שבה } x=1 \text{ הוא } -\frac{12}{e^{10}}$$

- מצא את ערך הפרמטר k וכתוב את הפונקציה.
- מצא את נקודת הקיצון של הפונקציה.
- סרטוט סקיצה של גרף הפונקציה.
- הוכח על סמך הסקיצה את אי-השוויון הבא: $0 < \frac{1}{e^{3x^2+6x+1}} \leq e^2$.

$$(38) \text{ נתונה הפונקציה הבאה: } f(x) = e^{2x} + ae^x + b \text{ . גוזרים את הפונקציה פעמיים}$$

$$\text{וידוע כי כאשר } x = \ln \frac{2}{3} \text{ הנגזרות מקיימות: } f'(x) + f''(x) = 8$$

- מצא את a .
- משוואת המשיק לגרף הפונקציה בנקודה מסוימת היא: $y = 16x + 7 - 16 \ln 2$.
- מצא את שיעור ה- x של נקודת ההשקה.
- מצא את b .
- מצא את נקודת החיתוך של הפונקציה עם ציר ה- x .

$$(39) \text{ נתונות הפונקציות הבאות: } f(x) = 6x - e^x \text{ ו- } g(x) = ae^x - e^{2x} + b$$

ידוע כי לשתי הפונקציות נקודת קיצון שבה אותו שיעור x וכי שתיהן נפגשות על ציר ה- y .

- מצא את ערכי הפרמטרים a ו- b .
- הראה כי לשתי הפונקציות תחומי עלייה וירידה משותפים.

40) לגרף הפונקציה: $f(x) = ax^2 \cdot e^{-bx^2}$ יש נקודת קיצון: $\left(2, \frac{4}{e}\right)$, $a, b \neq 0$.

- מצא את ערכי הפרמטרים a ו- b וכתוב את הפונקציה.
- מצא את נקודות הקיצון הנוספות של הפונקציה וקבע את סוגן.
- מצא את נקודות החיתוך של הפונקציה עם הצירים.
- סרטט סקיצה של גרף הפונקציה.
- מעבירים ישר: $y = k$. באיזה תחום ערכים צריך להימצא k כדי שהישר יחתוך את גרף הפונקציה ב-4 נקודות שונות?

41) לפונקציה: $f(x) = \frac{x^2 - 6x - 7}{e^{ax-1}}$ יש קיצון בנקודה שבה: $x = 1$.

- מצא את ערך הפרמטר a .
- האם יש לגרף הפונקציה נקודות קיצון נוספות? אם כן מצא אותן.
- כתוב את תחומי העלייה והירידה של הפונקציה.
- מצא את נקודות החיתוך של גרף הפונקציה עם הצירים.
- סרטט סקיצה של גרף הפונקציה.

42) הישר $x = \sqrt{6}$ הוא אסימפטוטה אנכית של הפונקציה: $f(x) = \frac{e^{2x}}{x^2 + m}$.

- מצא את ערך הפרמטר m וכתוב את הפונקציה.
- מצא את נקודות הקיצון של הפונקציה וקבע את סוגן.
- מצא את נקודות החיתוך של גרף הפונקציה עם הצירים.
- סרטט סקיצה של גרף הפונקציה.

43) נתונה הפונקציה: $f(x) = x^3 \cdot e^{2x}$.

- מצא את הנקודות המקיימות: $f'(x) = 0$ וקבע כמה מהן הן נקודות קיצון.
- מצא את האסימפטוטות המקבילות לצירים של הפונקציה.
- סרטט סקיצה של גרף הפונקציה.
- בכמה נקודות חותך הישר $y = -0.01$ את גרף הפונקציה?

44 נתונה הפונקציה הבאה: $f(x) = e^{2x} + ae^x + b$. גוזרים את הפונקציה פעמיים

$$f'(x) + f''(x) = 12 \text{ הנגזרות מקיימות: } x = \ln \frac{2}{3}$$

א. מצא את a .

משוואת המשיק לגרף הפונקציה בנקודה מסוימת היא: $y = 22x + 28 - 22 \ln 2$.

ב. מצא את שיעור ה- x של נקודת ההשקה.

ג. מצא את b .

ד. האם הפונקציה חותכת את ציר ה- x ? אם כן מצא את הנקודות.

45 נתונה הפונקציה: $f(x) = x \cdot a^x$, $(a > 0)$.

$$\text{לפונקציה יש נקודת קיצון שבה: } x = -\frac{1}{\ln 2}$$

א. מצא את a .

ב. כתוב את תחומי העלייה והירידה של הפונקציה.

הנקודה שבה $x = 2$ היא נקודת החיתוך של גרף הפונקציה $f(x)$

$$\text{עם גרף הפונקציה: } g(x) = x^2 \cdot 2^x - kx \cdot 2^x$$

ג. מצא את k .

ד. מצא נקודה נוספת שבה הגרפים נחתכים.

46 נתונה הפונקציה: $f(x) = 3^{2x} + 2 \cdot 3^{1-x}$.

א. מצא את משוואת המשיק לגרף הפונקציה בנקודת החיתוך שלה

עם ציר ה- y .

ב. הוכח כי גרף הפונקציה אינו חותך את ציר ה- x .

ג. מצא את נקודת הקיצון של הפונקציה וקבע את סוגה.

תשובות סופיות:

$$(11) \quad \text{א. כל } x \quad \text{ב. } x \neq 0 \quad \text{ג. } x \neq \ln 5 \quad \text{ד. } x \neq \ln 2, x \neq 0 \quad \text{ה. כל } x$$

$$\text{ו. } 0 \leq x \neq \frac{2}{5} \quad \text{ז. } x \leq 0, x \geq \ln 3$$

$$(12) \quad \min(0,0), \max\left(-2, \frac{4}{e^2}\right)$$

$$(13) \quad \min(3, e^3)$$

$$(14) \quad \min(1.5, 0), \max(3.5, 0.483), b = -12, a = 4$$

$$(15) \quad p = -27, q = 35$$

$$(16) \quad y = 0$$

$$(17) \quad y = 0$$

$$(18) \quad x = 0, y = -5, y = 1$$

$$(19) \quad x = \ln 5, y = -\frac{1}{5}$$

$$(20) \quad y = -1, y = 1$$

$$(21) \quad \text{נקודת אי הגדרה: } (\ln 2, -1), x = \ln 3, y = -\frac{1}{3}, y = 0$$

$$(22) \quad x = 0, y = 0$$

$$(23) \quad y = 0$$

$$(24) \quad x = \frac{1}{3}, y = 0$$

$$(25) \quad y = 0$$

$$(26) \quad \text{נקודת אי הגדרה: } (0,0), x = 0$$

$$(27) \quad \left(3, \frac{10}{e^3}\right), a = 1, b = 1$$

$$(28) \quad \text{א. כל } x \quad \text{ב. } (0, -1), (1, 0) \quad \text{ג. } \min(0, -1) \quad \text{ד. עולה: } x > 0 \quad \text{יורדת: } x < 0$$

$$\text{ב. כל } x \quad \text{ג. } (0, 1) \quad \text{ד. עולה: } x < -1, x > -1 \quad \text{פיתול } \left(-1, \frac{2}{e}\right)$$

$$\text{ג. כל } x \quad \text{ד. } (0, 0) \quad \text{ה. } \max\left(2, \frac{4}{e}\right), \min(0, 0), \max\left(-2, \frac{4}{e}\right)$$

$$\text{ה. עולה: } x < -2, 0 < x < 2 \quad \text{יורדת: } x > 2, -2 < x < 0$$

$$\text{ד. כל } x \quad \text{ה. } (0, 1) \quad \text{ו. } \min(0.5, e^{-0.25}) \quad \text{ז. עולה: } x > 0.5 \quad \text{יורדת: } x < 0.5$$

- ה.1. כל x .2. $(0,1)$.3. $\max(0,1)$.4. עולה: $x < 0$ יורדת: $x > 0$
- ו.1. כל x .2. $(0, 2e^{-1})$.3. $\min(0, 2e^{-1})$.4. עולה: $x > 0$ יורדת: $x < 0$
- (29) א. כל x .ב. $\min(2, -e^2)$.ג. תחומי עלייה: $x > 2$ תחומי ירידה: $x < 2$
 ד. $(3,0)$, $(0,-3)$
- (30) א. כל x .ב. $\max(0,3)$, $\min(\ln 3, 1.59)$.ג. תחומי עלייה: $x > \ln 3$ או $x < 0$ תחומי ירידה: $0 < x < \ln 3$.ד. $(0,3)$
- (31) א. כל x .ב. $\min\left(-1, -\frac{4}{e^{0.5}}\right)$, $\max\left(1, \frac{4}{e^{0.5}}\right)$.ג. תחומי עלייה: $-1 < x < 1$ תחומי ירידה: $x > 1$ או $x < -1$.ד. $(0,0)$
- (32) א. כל x .ב. $\max\left(3, \frac{27}{e^3}\right)$.ג. עולה: $x < 3$, יורדת: $x > 3$
 ד. $(0,0)$
- (33) א. כל x .ב. $\min(-0.91, -0.67)$.ג. עולה: $x > -0.91$ יורדת: $x < -0.91$
 ד. $(0,0)$
- (34) א. כל x .ב. $\max(1, 2\sqrt{e})$, $\min\left(-1, \frac{2}{\sqrt{e}}\right)$.ג. עולה: $-1 < x < 1$ יורדת:
 ד. $(0,2)$.ה. $y = 2$.ו. $m = 2$, $m = 2\sqrt{e}$, $m = \frac{2}{\sqrt{e}}$
- (35) א. $x \neq 0$.ב. $\min\left(\frac{1}{2}, \frac{e^2}{4}\right)$.ג. עולה: $x > \frac{1}{2}$, יורדת: $0 \neq x < \frac{1}{2}$
 ד. אין
- (36) א. כל x .ב. $\max\left(\frac{1}{6}, \frac{3\sqrt{e}}{4}\right)$, $\min\left(\frac{1}{2}, \frac{e^{1.5}}{4}\right)$.ג. עולה: $x > \frac{1}{2}$, $x < \frac{1}{6}$ יורדת:
 ד. $(0,1)$.ה. $\frac{1}{6} < x < \frac{1}{2}$
- (37) א. $k = 1$, $f(x) = \frac{1}{e^{3x^2+6x+1}}$.ב. $(-1, e^2)$.ג. $a = 4$.ד. ניתן לראות עפ"י הגרף כי ערך הפונקציה $f(x)$ נמצא בתחום $0 < f(x) \leq e^2$
- (38) א. $a = 4$.ב. $x = \ln 2$.ג. $b = -5$.ד. $(0,0)$
- (39) א. $a = 12$, $b = -12$.ב. עולות: $x < \ln 6$ יורדות: $x > \ln 6$

א. $f(x) = x^2 e^{-\frac{1}{4}x^2}$, $a=1$, $b=0.25$ (40) ב. $\max\left(-2, \frac{4}{e}\right)$, $\min(0,0)$

ג. $(0,0)$ ה. $0 < k < \frac{4}{e}$

א. $a = \frac{1}{3}$ (41) ב. כן: $\left(11, \frac{48}{e^{\frac{2}{3}}}\right)$ ג. עולה: $1 < x < 11$ יורדת: $x < 1, x > 11$

ד. $(-1,0)$, $(7,0)$, $(0,-7e)$

א. $f(x) = \frac{e^{2x}}{x^2 - 6}$, $m = -6$ (42) ב. $\max\left(-2, -\frac{1}{2e^4}\right)$, $\min\left(3, \frac{e^6}{3}\right)$ ג. $\left(0, -\frac{1}{6}\right)$

א. $x = 0, -1.5$. נקודת הקיצון היא: $\min\left(-1.5, -3\frac{3}{8}e^{-3}\right)$ (43) ב. $y = 0$

ד. 2 נקודות.

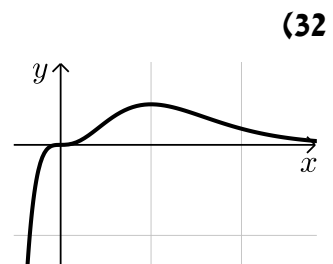
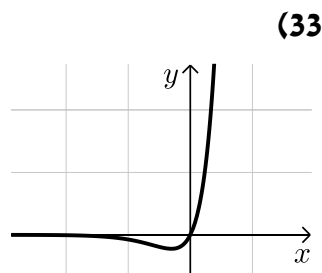
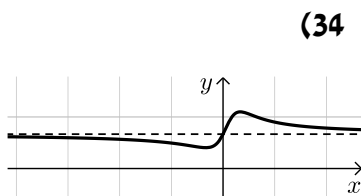
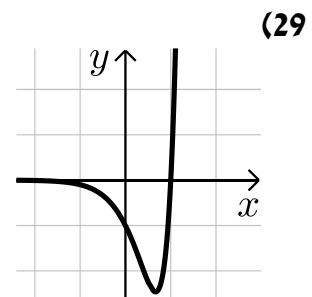
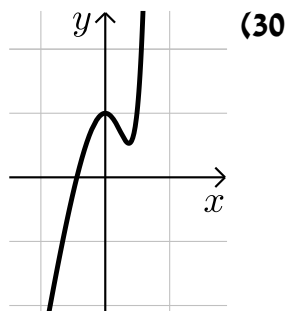
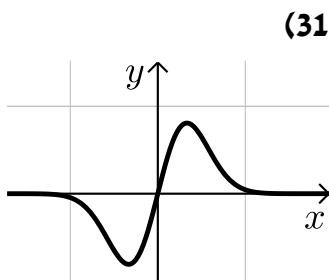
א. $a = 7$ (44) ב. $x = \ln 2$ ג. $b = 10$ ד. לא.

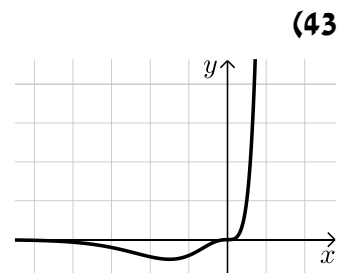
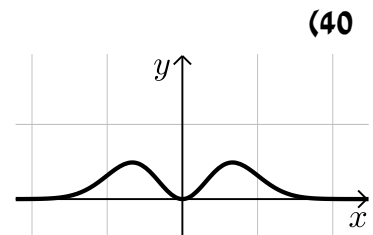
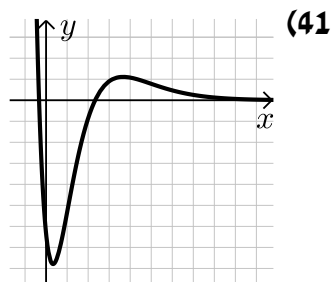
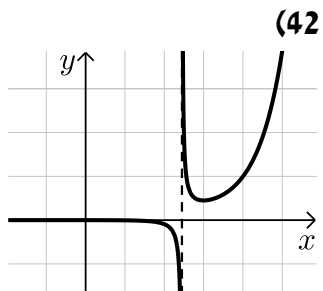
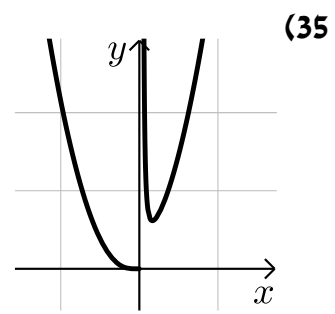
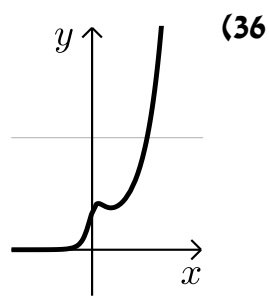
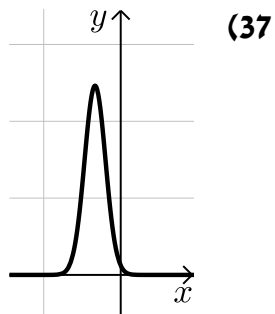
א. $a = 2$ (45) ב. עולה: $x > -\frac{1}{\ln 2}$ יורדת: $x < -\frac{1}{\ln 2}$ ג. $k = 1$

ד. $(0,0)$

א. $y = -x \ln 81 + 7$ (46) ג. $\min\left(\frac{1}{3}, \sqrt[3]{243}\right)$

סקיצות לשאלות החקירה:





מכינה במתמטיקה להנדסת מכונות

פרק 38 - חשבון דיפרנציאלי - פונקציות לוגריתמיות

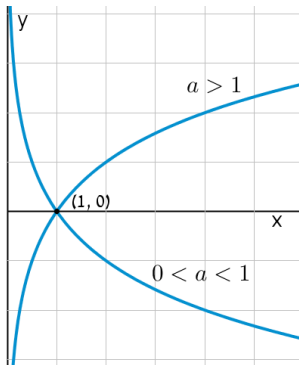
תוכן העניינים

1. הנגזרת של פונקציה לוגריתמית 655
2. שימושי הנגזרת 660
3. חקירה של פונקציה לוגריתמית 661

הנגזרת של פונקציה לוגריתמית:

סיכום כללי:

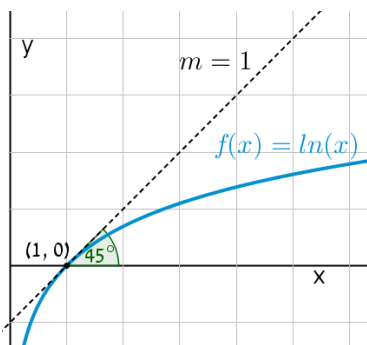
הגדרות כלליות:



להלן תיאורים גרפיים של פונקציה לוגריתמית כללית מהצורה: $f(x) = \log_a x$ עבור $a > 1$ ו- $0 < a < 1$:

תכונות כלליות:

- לפונקציות תחום הגדרה $x > 0$.
- הפונקציות תמיד חותכות את ציר ה- x בנקודה $(1, 0)$.
- עבור $a > 1$ הפונקציה עולה בכל ת.ה. ועבור $0 < a < 1$ הפונקציה יורדת בכל ת.ה.



עבור הפונקציות $f(x) = \ln x = \log_e x$ נקבל כי שיפוע המשיק לגרף הפונקציה בנקודת החיתוך שלה עם ציר ה- x הוא 1:

תחום הגדרה של פונקציה לוגריתמית:

תחום ההגדרה של פונקציה לוגריתמית מהצורה: $y = \log(f(x))$ הוא: $f(x) > 0$.

נגזרות של פונקציות לוגריתמיות:

הפונקציה	הנגזרת
$y = \log_a x$	$y' = \frac{1}{x \ln a}$
$y = \log_a f(x)$	$y' = \frac{f'(x)}{f(x) \ln a}$
$y = \ln x$	$y' = \frac{1}{x}$
$y = \ln f(x)$	$y' = \frac{f'(x)}{f(x)}$

שאלות:

1) גזור את הפונקציות הבאות (גזירה לוגריתמית יסודית עם ביטויים פנימיים שונים):

א. $f(x) = 3 \ln x + 4 \ln(x+2) - \ln(5x-1)$ ב. $f(x) = \ln(x^2 - 3x)$

ג. $f(x) = \ln \frac{x+1}{x-1}$ ד. $f(x) = \ln(e^x + 1)$

ה. $f(x) = \ln(\cos x)$ ו. $f(x) = \log_2 x + 5 \log_3(2x-1)$

2) גזור את הפונקציות הבאות (מכפלה ומנה של פונקציות):

א. $f(x) = x \ln x$ ב. $f(x) = (3x+1)^2 \ln x$ ג. $f(x) = \frac{\ln x}{x}$

ד. $f(x) = \frac{\ln x - 2}{\ln x + 2}$ ה. $f(x) = \sqrt{\ln x + x}$

3) גזור את הפונקציות הבאות (פונקציות מורכבות):

א. $f(x) = \ln^3 x$ ב. $f(x) = 3 \ln^2 x$

ג. $f(x) = x^2 \ln^2 x$ ד. $f(x) = \frac{\ln^2 x + 1}{(\ln x + 1)^2}$

4) גזור את הפונקציות הבאות (שאלות שונות):

- | | |
|----------------------------------|-------------------------------------|
| א. $f(x) = \ln(x+2)$ | ב. $f(x) = \ln^2 x + 2 \ln x - 3$ |
| ג. $f(x) = x^2 \ln x$ | ד. $f(x) = x^3 \ln x$ |
| ה. $f(x) = \ln e^{2x}$ | ו. $f(x) = e^x \ln x$ |
| ז. $f(x) = e^{-x^2} \ln x$ | ח. $f(x) = x^2(2 \ln x - 1)$ |
| ט. $f(x) = \ln(x^2)$ | י. $f(x) = \ln(x^4)$ |
| יא. $f(x) = (\ln x)^4$ | יב. $f(x) = x \ln x - \ln x^2$ |
| יג. $f(x) = \frac{(\ln x)^2}{x}$ | יד. $f(x) = \ln \sqrt{x}$ |
| טו. $f(x) = \sqrt{\ln x}$ | טז. $f(x) = \frac{\ln x}{\sqrt{x}}$ |

5) גזור את הפונקציות הבאות (שאלות אתגר):

- | | |
|--|--|
| א. $f(x) = \ln \frac{x+2}{x}$ | ב. $f(x) = \ln \frac{x-1}{x+1}$ |
| ג. $f(x) = \ln \frac{x-3}{x+3}$ | ד. $f(x) = \ln \frac{(x-5)^3}{(x+1)^2}$ |
| ה. $f(x) = \ln \sqrt{x^2 - 1}$ | ו. $f(x) = \ln(x + \sqrt{x^2 + a^2})$ |
| ז. $f(x) = e^{\sqrt{\ln x}}$ | ח. $f(x) = \ln \sqrt{\frac{1}{2-x}}$ |
| ט. $f(x) = \ln \sqrt{\frac{1-x}{1+x}}$ | י. $f(x) = \ln \sqrt{\frac{1+5x}{1-5x}}$ |
| יא. $f(x) = \frac{\ln \sqrt[3]{x}}{x}$ | יב. $f(x) = \frac{(\ln x)^3}{x}$ |
| יג. $f(x) = \frac{x}{\ln(x^2)}$ | יד. $f(x) = \ln^2 x + \frac{1}{\ln^2 x}$ |
| טו. $f(x) = \frac{x}{\ln^4 x}$ | |

תשובות סופיות:

$$\begin{array}{lll}
 f'(x) = \frac{-2}{(x-1)(x+1)} \cdot \text{ג} & f'(x) = \frac{2x-3}{x^2-3x} \cdot \text{ב} & f'(x) = \frac{3}{x} + \frac{4}{x+2} - \frac{5}{5x-1} \cdot \text{א} \quad (1) \\
 f'(x) = \frac{1}{x \ln 2} + \frac{10}{(2x-1) \ln 3} \cdot \text{ו} & f'(x) = -\tan x \cdot \text{ה} & f'(x) = \frac{e^x}{e^x+1} \cdot \text{ז} \\
 f'(x) = \frac{1-\ln x}{x^2} \cdot \text{ג} & f'(x) = (3x+1) \left(6 \ln x + \frac{3x+1}{x} \right) \cdot \text{ב} & f'(x) = \ln x + 1 \cdot \text{א} \quad (2) \\
 & f'(x) = \frac{1+x}{2x\sqrt{\ln x+x}} \cdot \text{ה} & f'(x) = \frac{4}{x(\ln x+2)^2} \cdot \text{ז} \\
 f'(x) = 2x \ln x (\ln x + 1) \cdot \text{ג} & f'(x) = \frac{6 \ln x}{x} \cdot \text{ב} & f'(x) = \frac{3 \ln^2 x}{x} \cdot \text{א} \quad (3) \\
 & & f'(x) = \frac{2(\ln x - 1)}{x(\ln x + 1)^3} \cdot \text{ז} \\
 x(2 \ln x + 1) \cdot \text{ג} & \frac{2 \ln x + 2}{x} \cdot \text{ב} & \frac{1}{x+2} \cdot \text{א} \quad (4) \\
 e^x \left(\ln x + \frac{1}{x} \right) \cdot \text{ו} & 2 \cdot \text{ה} & x^2 (3 \ln x + 1) \cdot \text{ז} \\
 \frac{4}{x} \cdot \text{ד} & \frac{2}{x} \cdot \text{ט} & 4x \ln x \cdot \text{ח} & e^{-x^2} \left(\frac{1}{x} - 2x \ln x \right) \cdot \text{ז} \\
 \frac{2 \ln x - \ln^2 x}{x^2} \cdot \text{ג} & \ln x + 1 - \frac{2}{x} \cdot \text{ב} & \frac{4(\ln x)^3}{x} \cdot \text{א} \\
 \frac{2 - \ln x}{2x\sqrt{x}} \cdot \text{ט} & \frac{1}{2x\sqrt{\ln x}} \cdot \text{טו} & \frac{1}{2x} \cdot \text{ז} \\
 \frac{6}{x^2-9} \cdot \text{ג} & \frac{2}{x^2-1} \cdot \text{ב} & -\frac{2}{x(x+2)} \cdot \text{א} \quad (5) \\
 \frac{\sqrt{x^2+a^2}+x}{x\sqrt{x^2+a^2}+x^2+a^2} \cdot \text{ו} & \frac{x}{x^2-1} \cdot \text{ה} & \frac{3}{x-5} - \frac{2}{x+1} \cdot \text{ז} \\
 \frac{1}{x^2-1} \cdot \text{ט} & \frac{1}{4-2x} \cdot \text{ח} & \frac{e^{\sqrt{\ln x}}}{2x\sqrt{\ln x}} \cdot \text{ז}
 \end{array}$$

$$\frac{3\ln^2 x - \ln^3 x}{x^2} \quad \text{י.ב.}$$

$$\frac{\ln x - 4}{\ln^5 x} \quad \text{ט.ו.}$$

$$\frac{1 - 3\ln \sqrt[3]{x}}{3x^2} \quad \text{י.א.}$$

$$\frac{2(\ln^4 x - 1)}{x \ln^3 x} \quad \text{י.ד.}$$

$$\frac{5}{1 - 25x^2} \quad \text{י.י.}$$

$$\frac{\ln(x^2) - 2}{\ln^2(x^2)} \quad \text{י.ג.}$$

שימושי הנגזרת:

שאלות:

(6) מצא את משוואת המשיק לפונקציה $f(x) = \ln x$ בנקודה $A(e, 1)$.

(7) שיפוע המשיק לפונקציה $f(x) = \frac{\ln^2 x + a}{\ln x + b}$ בנקודה $\left(\frac{1}{e}, -1\right)$ הוא $\frac{e}{3}$. מצא את ערכי הפרמטרים a ו- b .

(8) הגרפים של הפונקציות $f(x) = \ln x$ ו- $g(x) = 1 - x$ נחתכים בנקודה A ברביע הראשון. בנקודה A העבירו משיק ל- $f(x)$. מצא את משוואת המשיק והוכח שמשיק זה עובר דרך הראשית.

(9) לפונקציה $g(x) = \frac{\ln x^2}{x}$ העבירו משיק בנקודה שבה $x = e^2$. מצא את משוואת המשיק.

(10) מצא את משוואת המשיק לגרף הפונקציה $y = x \ln(x^2 + 1)$ בנקודה שבה $x = 1$.

תשובות סופיות:

(6) $y = \frac{1}{e}x$

(7) $a = 2, b = -2$

(8) $y = \frac{1}{e}x$

(9) $y = -\frac{2}{e^4}x + \frac{6}{e^2}$

(10) $y = \ln 2 \cdot x + x - 1$

חקירה של פונקציה לוגריתמית:

שאלות:

11 מצא את תחום ההגדרה של הפונקציות הבאות:

א. $f(x) = \ln x$	ב. $f(x) = \ln(x^2)$
ג. $f(x) = \log_3(x^2 - 8x - 20)$	ד. $f(x) = \ln(e^x - 4)$
ה. $f(x) = \frac{x-1}{\ln x - 1}$	ו. $f(x) = \frac{1}{\ln^2 x - 2 \ln x - 3}$
ז. $f(x) = \sqrt{\ln x - 1}$	

12 מצא את נקודות הקיצון של הפונקציה הבאה: $f(x) = 2 \ln x - x^2$.

13 מצא את נקודות הקיצון של הפונקציה הבאה: $f(x) = x^2 \ln x$.

14 מצא את נקודות הקיצון של הפונקציה הבאה: $f(x) = \frac{\sqrt{2 \ln x - 1}}{x}$.

15 מצא את נקודות הקיצון של הפונקציה הבאה: $f(x) = \log_4^2 x - \log_2 x$.

16 נתונה הפונקציה: $f(x) = \frac{a \ln x + b}{x}$. הנקודה $(e^2, \frac{1}{e^2})$ היא נקודת קיצון של הפונקציה. מצא את ערכי הפרמטרים a ו- b .

17 נתונה הפונקציה: $f(x) = \frac{a \ln^2 x + b \ln x}{(\ln x + 1)^2}$. הנקודה $(\sqrt[3]{e}, -\frac{1}{8})$ היא נקודת קיצון של הפונקציה. מצא את ערכי הפרמטרים a ו- b .

18 מצא את האסימפטוטות של הפונקציה הבאה: $f(x) = \ln(x-3)$.

19 מצא את האסימפטוטות של הפונקציה הבאה: $f(x) = \frac{1}{\ln x - 1}$.

(20) מצא את האסימפטוטות של הפונקציה הבאה: $f(x) = \frac{2\ln x - 1}{\ln x + 1}$.

(21) מצא את האסימפטוטות של הפונקציה הבאה: $f(x) = \frac{\ln x - 2}{\ln^2 x - 4}$.

(22) מצא את האסימפטוטות של הפונקציה הבאה: $f(x) = \frac{\ln x}{x}$.

(23) מצא את האסימפטוטות של הפונקציה הבאה: $f(x) = \frac{x^2 - 1}{\ln^2 x + 1}$.

(24) מצא את האסימפטוטות של הפונקציה הבאה: $f(x) = x \ln x + 2$.

(25) נתונה הפונקציה: $f(x) = \frac{\ln x}{x}$. מצא את נקודת הפיתול של הפונקציה.

(26) חקור את הפונקציות הבאות עפ"י הסעיפים הבאים:

- i. מציאת תחום ההגדרה של הפונקציה.
- ii. מציאת נקודות החיתוך של גרף הפונקציה עם הצירים.
- iii. מציאת נקודות הקיצון של הפונקציה וקביעת סוגן.
- iv. כתיבת תחומי העלייה והירידה של הפונקציה.

$y = x \ln x$ ב.	$y = \frac{1}{2}x^2 - 4x + 3 \ln x$ א.
$y = \sqrt{x} \ln x$ ד.	$y = x \ln x - x$ ג.
$y = \ln(x^2 + 1)$ ו.	$y = x^2 \ln x$ ה.

(27) נתונה הפונקציה $f(x) = 2x \ln^2 x$. חקור לפי הסעיפים הבאים:

- מציאת תחום ההגדרה של הפונקציה.
- מציאת נקודות הקיצון של הפונקציה וקביעת סוגן.
- כתיבת תחומי העלייה והירידה של הפונקציה.
- נקודות החיתוך של גרף הפונקציה עם הצירים.
- סרטוט סקיצה של גרף הפונקציה.

(28) נתונה הפונקציה $f(x) = \frac{x}{\ln x - 1}$. חקור לפי הסעיפים הבאים:

- תחום הגדרה של הפונקציה.
- מציאת נקודות הקיצון של הפונקציה וקביעת סוגן.
- כתיבת תחומי העלייה והירידה של הפונקציה.
- מציאת נקודות החיתוך של גרף הפונקציה עם הצירים.
- סרטוט סקיצה של גרף הפונקציה.
- מצא לאלו ערכי k הישר $y = k$ חותך את הפונקציה בשתי נקודות.

(29) נתונה הפונקציה $f(x) = \log_4^2 x - \log_2 x$. חקור לפי הסעיפים הבאים:

- תחום הגדרה של הפונקציה.
- מציאת נקודות הקיצון של הפונקציה וקביעת סוגן.
- כתיבת תחומי העלייה והירידה של הפונקציה.
- מציאת נקודות החיתוך של גרף הפונקציה עם הצירים.
- סרטוט סקיצה של גרף הפונקציה.

(30) נתונה הפונקציה: $f(x) = \sqrt{\ln x}$.

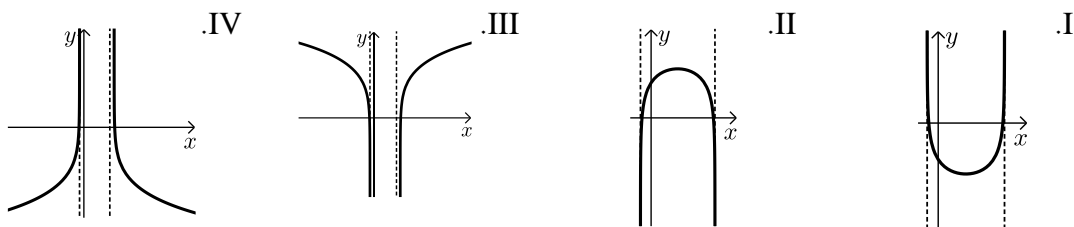
- מהו תחום ההגדרה של הפונקציה?
- הוכח כי גרף הפונקציה עולה בכל תחום הגדרתו.
- מגדירים פונקציה נוספת: $g(x) = \ln x$.
- מצא את נקודות החיתוך של שני הגרפים.
- הנקודה A נמצאת על גרף הפונקציה $f(x)$ והנקודה B נמצאת על גרף הפונקציה $g(x)$. ידוע כי לנקודות A ו-B אותו שיעור x , $(x_A = x_B)$.
- מצא את שיעור ה- x של שתי הנקודות אם ידוע כי המשיקים לגרפים של הפונקציות בנקודות אלו מקבילים.

(31) נתונה שתי הפונקציות הבאות: $f(x) = \frac{x}{\ln x}$, $g(x) = \frac{\ln x}{x}$.

- א. קבע אילו מהמשפטים הבאים נכונים ואלו שגויים.
 נמק זאת ע"י חישוב מתאים ותקן במשפטים השגויים את הטעות.
- לשתי הפונקציות אותו תחום הגדרה.
 - לשתי הפונקציות יש נקודת קיצון מאותו סוג ובעלות שיעור x זהה.
 - לשתי הפונקציות תחומי עלייה וירידה זהים.
 - לשתי הפונקציות יש אסימפטוטות אנכיות.
- ב. בוחרים באקראי שתי נקודות, אחת על כל גרף, כך ששיעור ה- x שלהן זהה. הוכח כי מכפלת שיעורי ה- y של כל זוג נקודות כאלו שווה ל-1.

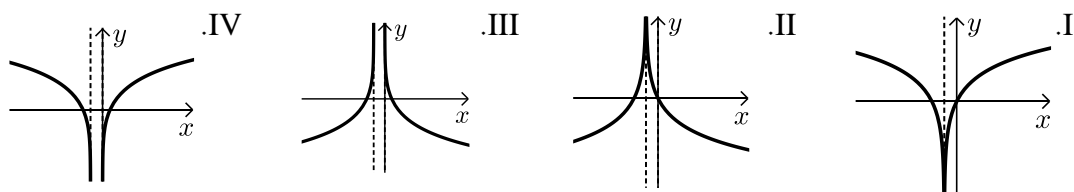
(32) נתונה הפונקציה הבאה: $y = \ln(x^2 - 6x - 7)$.

- א. מצא את תחום ההגדרה של הפונקציה.
 ב. מהן האסימפטוטות של הפונקציה המקבילות לציר ה- y ?
 ג. מצא את תחומי העלייה והירידה של הפונקציה.
 ד. לפניך 4 גרפים: I, II, III, ו-IV. איזה מהגרפים מתאים לפונקציה הנתונה. נמק.



(33) נתונה הפונקציה: $y = \ln(x^2 + 2x + 1)$.

- א. מצא את תחום ההגדרה של הפונקציה.
 ב. מהי האסימפטוטה של הפונקציה המקבילה לציר ה- y ?
 ג. מצא את תחומי העלייה והירידה של הפונקציה.
 ד. לפניך 4 גרפים: I, II, III, ו-IV. איזה מהגרפים מתאים לפונקציה הנתונה. נמק.



ה. העזר בגרף שבחרת וכתוב את תחומי השליליות של הפונקציה.

34) לפינך הפונקציה הבאה : $f(x) = \ln(1 - \ln x)$.

- מה הוא תחום ההגדרה של הפונקציה?
- הוכח כי הפונקציה יורדת בכל תחום הגדרתה.
- מצא את נקודות החיתוך של גרף הפונקציה עם ציר ה- x .
- סרטט סקיצה של גרף הפונקציה.

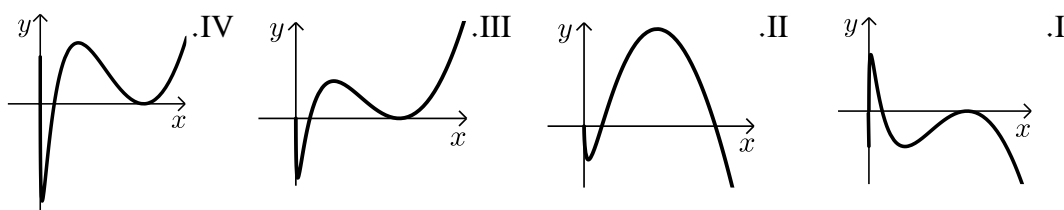
35) נתונה הפונקציה הבאה : $y = \ln \frac{2x+1}{x-1}$.

- מצא את תחום ההגדרה של הפונקציה.
- כתוב את האסימפטוטות האנכיות של גרף הפונקציה.
- מצא את נקודות החיתוך של גרף הפונקציה עם ציר ה- x .
- הראה כי גרף הפונקציה יורד בכל תחום הגדרתו.
- סרטט סקיצה של גרף הפונקציה.

36) נתונה הפונקציה הבאה : $f(x) = x(\ln^3 x + 2\ln^2 x)$.

- הראה כי נגזרת הפונקציה היא : $f'(x) = \ln^3 x + 5\ln^2 x + 4\ln x$.
- מצא את התחום בו הפונקציה עולה.
- ענה על השאלות הבאות :
 - מצא את נקודות החיתוך של הפונקציה עם ציר ה- x .
 - מצא את התחום בו הפונקציה חיובית.

ד. לפינך 4 גרפים. קבע איזה מהם מתאר את הפונקציה $f(x)$ ונמק את בחירתך.



37) נתונה הפונקציה : $f(x) = \ln^3 x - 3\ln x$.

- מה הוא תחום ההגדרה של הפונקציה.
- מצא את נקודות החיתוך של הפונקציה עם ציר ה- x .
- מצא את נקודות הקיצון של הפונקציה וקבע את סוגן.
- סרטט סקיצה של גרף הפונקציה.
- מצא את נקודות החיתוך של גרף הפונקציה $f(x)$ עם הפונקציה $g(x) = \ln x$.

38) ענה על הסעיפים הבאים :

א. פתור את המשוואה הבאה : $\ln(x+e) - \ln(x\sqrt{e}) = \ln 2 - 0.5$

נתונה הפונקציה : $f(x) = \ln(x+e) - \ln(x\sqrt{e})$

ב. הראה כי הפונקציה יורדת בכל תחום הגדרתה.

ג. מצא את משוואת המשיק לגרף הפונקציה בנקודה שבה : $x = e$.

39) נתונה הפונקציה הבאה : $y = \frac{x+a}{\ln(x+a)}$, פרמטר חיובי, $a \neq 1$

א. הבע באמצעות a את :

i. תחום ההגדרה של הפונקציה.

ii. הנקודה המקיימת $y' = 0$.

iii. נקודת החיתוך של גרף הפונקציה עם הצירים.

iv. האסימפטוטה האנכית של הפונקציה.

ב. ידוע כי גרף הפונקציה עולה רק בתחום : $x > e - 2$. מצא את a .

ג. סרטט סקיצה של גרף הפונקציה בתחום $x > -1$.

ד. נתון הישר : $y = k$. מצא בסקיצה את תחום הערכים של k עבורו לישר ולגרף הפונקציה לא תהיה אף נקודה משותפת.

40) נתונה הפונקציה הבאה : $y = \ln x + \frac{1}{x}$

א. ענה על הסעיפים הבאים :

i. מהו תחום ההגדרה של הפונקציה?

ii. יש לגרף הפונקציה אסימפטוטה מקבילה לציר y ?

אם כן מצא אותה.

ב. מצא את נקודת הקיצון של גרף הפונקציה וקבע את סוגה.

ג. כתוב את תחומי העלייה והירידה של גרף הפונקציה.

תשובות סופיות:

(11) א. $x > 0$ ב. $x \neq 0$ ג. $x > 10$ או $x < -2$ ד. $x > \ln 4$

ה. $0 < x \neq e$ ו. $x > 0$ וגם $x \neq e^3, e^{-1}$ ז. $x \geq e$

(12) $\max(1, -1)$

(13) $\min\left(\frac{1}{\sqrt{e}}, -\frac{1}{2e}\right)$

(14) $\min(\sqrt{e}, 0)$ קצה, $\max\left(e, \frac{1}{e}\right)$

(15) $\min(4, -1)$

(16) $a = 1, b = -1$

(17) $a = 1, b = -1$

(18) $x = 3$

(19) נקודת אי הגדרה $(0, 0)$, $y = 0, x = e$

(20) נקודת אי הגדרה $(0, 2)$, $y = 2, x = \frac{1}{e}$

(21) נקודת אי הגדרה $(e^2, \frac{1}{4})$, $(0, 0)$; $y = 0, x = \frac{1}{e^2}$

(22) $x = 0, y = 0$

(23) נקודת אי הגדרה $(0, 0)$

(24) נקודת אי הגדרה $(0, 2)$

(25) $\left(\sqrt{e^3}, \frac{3}{2\sqrt{e^3}}\right)$

(26) א. i. $x > 0$ iii. $\max(1, -3.5), \min(3, \ln 27 - 7.5)$

iv. עולה: $0 < x < 1, x > 3$ יורדת: $1 < x < 3$ ב. i. $x > 0$ ii. $(1, 0)$

iii. $\min(e^{-1}, -e^{-1})$ iv. עולה: $x > e^{-1}$ יורדת: $0 < x < e^{-1}$

ג. i. $x > 0$ ii. $(e, 0)$ iii. $\min(1, -1)$ iv. עולה: $x > 1$ יורדת: $0 < x < 1$

ד. i. $x > 0$ ii. $(1, 0)$ iii. $\min\left(e^{-2}, -\frac{2}{e}\right)$ iv. עולה: $x > e^{-2}$ יורדת: $0 < x < e^{-2}$

ה. i. $x > 0$ ii. $(1, 0)$ iii. $\min\left(\frac{1}{\sqrt{e}}, -\frac{1}{2e}\right)$ iv. עולה: $x > \frac{1}{\sqrt{e}}$ יורדת: $0 < x < \frac{1}{\sqrt{e}}$

ו. i. כל x ii. $(0, 0)$ iii. $\min(0, 0)$ iv. עולה: $x > 0$ יורדת: $x < 0$

(27) א. $x > 0$ ב. $\max\left(\frac{1}{e^2}, \frac{8}{e^2}\right), \min(1, 0)$

ג. עלייה: $x > 1$ או $0 < x < \frac{1}{e^2}$, ירידה: $\frac{1}{e^2} < x < 1$ ד. $(1, 0)$.

(28) א. $0 < x \neq e$ ב. $\min(e^2, e^2)$ ג. עלייה: $x > e^2$, ירידה: $0 < x < e^2$

ו. $k > e^2$ ד. אין.

(29) א. $x > 0$ ב. $\min(4, -1)$ ג. עלייה: $x > 4$, ירידה: $0 < x < 4$

ד. $(1, 0), (16, 0)$.

(30) א. $x \geq 1$ ב. מתקבל: $f'(x) = \frac{1}{2x\sqrt{\ln x}} > 0$ ג. $(1, 0), (e, 1)$

ד. $x = \sqrt[4]{e}$.

(31) א. i. לא נכון. תחום ההגדרה של $f(x)$ הוא: $x > 0, x \neq 1$ ותחום ההגדרה של $g(x)$ הוא: $x > 0$.

ii. לא נכון. לשתי הפונקציות נקודת קיצון שבה $x = e$ אך עבור $f(x)$ מדובר במינימום ועבור $g(x)$ מדובר במקסימום.

iii. לא נכון. עבור $f(x)$: עולה: $x > e$ יורדת: $0 < x < e, x \neq 1$

ועבור $g(x)$: עולה: $0 < x < e$ יורדת: $x > e$ iv. נכון.

ב. לגבי כל נקודה נאמר כי שיעור ה- y שלה הוא: $y = \frac{x}{\ln x}$ ו- $y = \frac{\ln x}{x}$.

נכפול: $y = \frac{x}{\ln x} \cdot \frac{\ln x}{x} = 1$.

(32) א. $x < -1, x > 7$ ב. $x = -1, 7$ ג. עולה: $x > 7$ יורדת: $x < -1$

ד. III. הסבר: באיורים I ו-II גרף הפונקציה לא בתחום. באיור IV תחומי העלייה והירידה הפוכים.

(33) א. $x \neq -1$ ב. $x = -1$ ג. עולה: $x > -1$ יורדת: $x < -1$

ד. I. הסבר: באיור II תחומי העלייה והירידה הפוכים.

באיורים III ו-IV יש אסימפטוטה מיותרת. ה. $x \neq -1, -2 < x < 0$.

34 א. $0 < x < e$. (שימו לב כי תנאי ת.ה. הם: $1 - \ln x > 0$ וגם $x > 0$).

ב. $f'(x) = \frac{-\frac{1}{x}}{1 - \ln x} = -\frac{1}{x(1 - \ln x)} < 0$. ולכן הפונקציה יורדת בת.ה.

ג. $(1, 0)$.

35 א. $x < -\frac{1}{2}, x > 1$. ב. $x = -\frac{1}{2}, 1$. ג. $(-2, 0)$.

ד. מתקבל: $y' = \frac{-3}{(2x+1)(x-1)} < 0$.

36 ב. $x > 1, e^{-4} < x < e^{-1}$.

ג. i. 2 נקודות והן: $(e^{-2}, 0)$, $(1, 0)$. הנקודה שבה: $x = 0$ לא קיימת עקב ת.ה.

ii. $x \neq 1, x > e^{-2}$. ד. III – בראשית הצירים יש חור ולא אסימפטוטה.

שאר הנתונים כפי שהתקבלו בסעיפים הקודמים.

37 א. $x > 0$. ב. $(e^{-\sqrt{3}}, 0)$, $(1, 0)$, $(e^{\sqrt{3}}, 0)$. ג. $\min(e, -2)$, $\max(e^{-1}, 2)$.

ה. $(1, 0)$, $(e^2, 2)$, $(e^{-2}, -2)$.

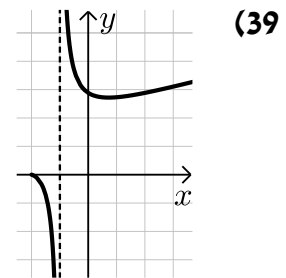
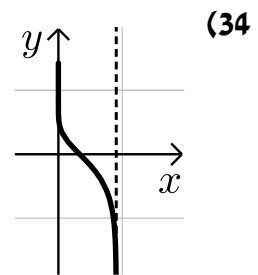
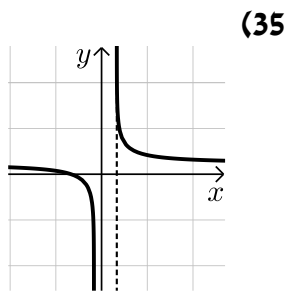
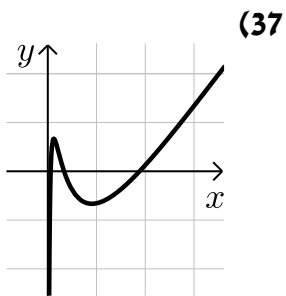
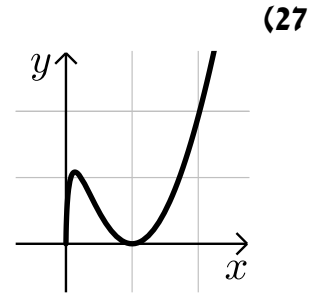
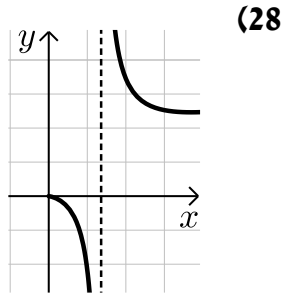
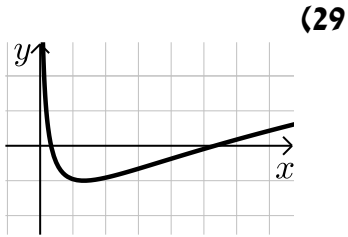
38 א. $x = e$. ב. מתקבל: $y' = \frac{-e}{x(x+e)} < 0$. ג. $y = -\frac{1}{2e}x + \ln 2$.

39 א. i. $x > -a, x \neq 1 - a$. ii. $(e - a, e)$. iii. $(0, \frac{a}{\ln a})$.

iv. $x = 1 - a$. ב. $a = 2$. ד. $k < e$.

40 א. i. $x > 0$. ii. $x = 0$. ב. $\min(1, 1)$. ג. עולה: $x > 1$, יורדת: $0 < x < 1$.

סקיצות לשאלות:



מכינה במתמטיקה להנדסת מכונות

פרק 39 - חשבון אינטגרלי - האינטגרל הכללי

תוכן העניינים

1. חישובי אינטגרלים 671
2. מציאת פונקציה קדומה 676

חישובי אינטגרלים:

סיכום כללי:

הגדרה וכללי האינטגרציה:

- כלל האינטגרציה של פונקציה פולינומית: $\int x^n dx = \frac{x^{n+1}}{n+1} + c, (n \neq -1)$
- עבור מקדם קבוע a נקבל: $\int ax^n dx = \frac{ax^{n+1}}{n+1} + c, (n \neq -1)$
- כללי האינטגרציה של פונקציות טריגונומטריות:

$$\int \sin x dx = -\cos x + c, \quad \int \cos x dx = \sin x + c, \quad \int \frac{1}{\cos^2 x} dx = \tan x + c, \quad \int \frac{1}{\sin^2 x} dx = -\cot x + c$$

שאלות:

1 מצא את האינטגרלים הבאים:

א. $\int x^3 dx$	ב. $\int 12x^5 dx$
ג. $\int x^4 dx$	ד. $\int 2x^3 dx$
ה. $\int \frac{2}{3} x^5 dx$	ו. $\int 7 dx$
ז. $\int \left(\frac{5}{6} x^4 + 16x^3 - \frac{x^2}{2} + 4x - \frac{1}{3} \right) dx$	ח. $\int \left(\frac{4x^3}{5} - ax^2 - \frac{2ax}{b} + b \right) dx$

2 מצא את האינטגרלים הבאים:

א. $\int x^{-3} dx$	ב. $\int \frac{1}{x^3} dx$
ג. $\int \left(\frac{1}{x^2} + \frac{3}{x^4} - \frac{a}{x^3} + \frac{x}{a} \right) dx$	ד. $\int \frac{2x^3 + x - 2}{x^3} dx$

3 מצא את האינטגרלים הבאים :

$$\begin{array}{ll} \int \sqrt{x} dx & \text{ב.} \\ \int \left(\frac{4}{\sqrt{x}} + 3\sqrt{x} \right) dx & \text{ד.} \end{array} \quad \begin{array}{l} \int x^{\frac{1}{2}} dx \quad \text{א.} \\ \int \frac{1}{\sqrt{x}} dx \quad \text{ג.} \end{array}$$

4 מצא את האינטגרלים הבאים :

$$\begin{array}{lll} \int \frac{18}{(6x+5)^2} dx & \text{ג.} & \int 3(2-7x)^4 dx \quad \text{ב.} & \int (5x-1)^3 dx \quad \text{א.} \\ & & \int \sqrt{ax+bdx} \quad \text{ה.} & \int \frac{1}{\sqrt{6x-3}} dx \quad \text{ד.} \end{array}$$

5 מצא את תוצאת החילוק :

$$\begin{array}{ll} \frac{x^3+x^2+3x-5}{x-1} = & \text{ב.} \\ \frac{x^3-4x^2+9}{x-3} = & \text{ד.} \end{array} \quad \begin{array}{ll} \frac{x^2-5x-14}{x+2} = & \text{א.} \\ \frac{x^4+x^3-x^2+14x-3}{x+3} = & \text{ג.} \\ \frac{x^3+5x^2-4x-20}{x+5} = & \text{ה.} \end{array}$$

6 מצא את האינטגרלים הבאים :

$$\begin{array}{ll} \int \frac{x^3+x^2+3x-5}{x-1} dx & \text{ב.} \\ \int \frac{x^3-4x^2+9}{x-3} dx & \text{ד.} \\ \int \frac{2x^5+x^4-4x^2+1}{2x+1} dx & \text{ו.} \end{array} \quad \begin{array}{ll} \int \frac{x^2-5x-14}{x+2} dx & \text{א.} \\ \int \frac{x^4+x^3-x^2+14x-3}{x+3} dx & \text{ג.} \\ \int \frac{x^3+5x^2-4x-20}{x+5} dx & \text{ה.} \end{array}$$

7 מצא את האינטגרלים הבאים :

$$\begin{array}{ll} \int \frac{x^2}{(x^3+6)^2} dx & \text{ב.} \\ \int \frac{x}{\sqrt{x^2+2}} dx & \text{ד.} \\ \int 8x(x^2+1)^3 dx & \text{ו.} \end{array} \quad \begin{array}{ll} \int -\frac{2x}{(x^2-1)^2} dx & \text{א.} \\ \int \frac{x-2}{(x^2-4x+1)^2} dx & \text{ג.} \\ \int \frac{6x-3}{\sqrt{x-x^2}} dx & \text{ה.} \\ \int (2-x^2)(6x-x^3)^2 dx & \text{ז.} \end{array}$$

8) חשב את האינטגרלים הבאים :

א. $\int \left(\sin x - 3 \cos x + \frac{4}{\cos^2 x} + 5 \right) dx$

ב. $\int \left(\cos 3x - 2 \sin 4x + \frac{4}{\cos^2 3x} \right) dx$

ג. $\int \left(\sin(\pi - x) + \frac{1 + \cos^2 x}{\cos^2 x} \right) dx$

9) חשב את האינטגרלים הבאים (שימוש בזהויות) :

א. $\int (2 \sin x \cos x) dx$

ב. $\int (\sin 3x \cos 3x) dx$

ג. $\int (\sin^4 x - \cos^4 x) dx$

ד. $\int (\sin^2 x) dx$

10) חשב את האינטגרלים הבאים :

א. $\int \left(\frac{\cos x}{\sqrt{\sin x}} \right) dx$

ב. $\int \left(\frac{\sin x}{\cos^2 x} \right) dx$

ג. $\int (\cos x \sin^2 x) dx$

11) חשב את האינטגרלים הבאים :

א. $\int \left(\sin 2x - 4 \cos \frac{x}{3} \right) dx$

ב. $\int \frac{1}{\cos^2 4x} dx$

ג. $\int \frac{1}{\sin^2 10x} dx$

ד. $\int (\cos^2 x - \sin^2 x) dx$

ה. $\int (\cos^4 x - \sin^4 x) dx$

ו. $\int (\cos x + \sin x)^2 dx$

ז. $\int (\sin x \cos x \cos(2x)) dx$

ח. $\int \tan^2 x dx$

ט. $\int \frac{1}{(\sin x \cos x)^2} dx$

י. $\int \cos^2 x dx$

יא. $\int \sin^2 4x dx$

12) חשב את ערכי האינטגרלים הבאים (שאלות אתגר):

$$\int (\cos^4 x + \sin^4 x) dx \quad \text{א.} \quad \int \cos^4 x dx \quad \text{ב.}$$

$$\int \sin^4 4x dx \quad \text{ג.} \quad \int \frac{1 + \cos 2x}{1 - \cos 2x} dx \quad \text{ד.}$$

$$\int \frac{\sin^3 x}{1 - \cos x} dx \quad \text{ה.}$$

תשובות סופיות:

$$(1) \quad \text{א.} \frac{x^4}{4} + c \quad \text{ב.} 2x^6 + c \quad \text{ג.} \frac{x^5}{5} + c \quad \text{ד.} \frac{x^4}{2} + c \quad \text{ה.} \frac{x^6}{9} + c \quad \text{ו.} 7x + c$$

$$\text{ז.} \frac{x^5}{6} + 4x^4 - \frac{x^3}{6} + 2x^2 - \frac{1}{3}x + c \quad \text{ח.} \frac{x^4}{5} - \frac{ax^3}{3} - \frac{ax^2}{b} + bx + c$$

$$(2) \quad \text{א.} -\frac{x^{-2}}{2} + c \quad \text{ב.} -\frac{1}{2x^2} + c \quad \text{ג.} -\frac{1}{x} - \frac{1}{x^3} + \frac{a}{2x^2} + \frac{x^2}{2a} + c \quad \text{ד.} 2x - \frac{1}{x} + \frac{1}{x^2} + c$$

$$(3) \quad \text{א.} \frac{x^{1.5}}{1.5} + c \quad \text{ב.} \frac{2}{3}\sqrt{x^3} + c \quad \text{ג.} 2\sqrt{x} + c \quad \text{ד.} 8\sqrt{x} + 2\sqrt{x^3} + c$$

$$(4) \quad \text{א.} \frac{(5x-1)^4}{20} + c \quad \text{ב.} -\frac{3(2-7x)^5}{35} + c \quad \text{ג.} -\frac{3}{6x+5} + c$$

$$\text{ד.} \frac{\sqrt{6x-3}}{3} + c \quad \text{ה.} \frac{2\sqrt{(ax+b)^3}}{3a} + c$$

$$(5) \quad \text{א.} x-7 \quad \text{ב.} x^2+2x+5 \quad \text{ג.} x^3-2x^2+5x-1$$

$$\text{ד.} x^2-x-3 \quad \text{ה.} x^2-4$$

$$\frac{x^4}{4} - \frac{2x^3}{3} + \frac{5x^2}{2} - x + c \quad \lambda \quad \frac{x^3}{3} + x^2 + 5x + c \quad \text{ב.} \quad \frac{x^2}{2} - 7x + c \quad \text{א.} \quad (6)$$

$$\cdot \frac{x^5}{5} - x^2 + x + c \quad \text{ו.} \quad \frac{x^3}{3} - 4x + c \quad \text{ה.} \quad \frac{x^3}{3} - \frac{x^2}{2} - 3x + c \quad \text{ז.}$$

$$-\frac{1}{2(x^2 - 4x + 1)} + c \quad \lambda \quad -\frac{1}{3(x^3 + 6)} + c \quad \text{ב.} \quad \frac{1}{x^2 - 1} + c \quad \text{א.} \quad (7)$$

$$(x^2 + 1)^4 + c \quad \text{ו.} \quad -6\sqrt{x - x^2} + c \quad \text{ה.} \quad \sqrt{x^2 + 2} + c \quad \text{ז.}$$

$$\cdot \frac{(6x - x^3)^3}{9} + c \quad \text{ט.}$$

$$\frac{\sin 3x}{3} + \frac{\cos 4x}{2} + \frac{4 \tan 3x}{3} + c \quad \text{ב.} \quad -\cos x - 3 \sin x + 4 \tan x + 5x + c \quad \text{א.} \quad (8)$$

$$\cdot \cos(\pi - x) + \tan x + x + c \quad \text{ג.}$$

$$-\frac{\sin 2x}{2} + c \quad \lambda \quad -\frac{\cos 6x}{12} + c \quad \text{ב.} \quad -\frac{1}{2} \cos 2x + c \quad \text{א.} \quad (9)$$

$$\cdot \frac{1}{2}x - \frac{1}{4} \sin 2x + c \quad \text{ז.}$$

$$\cdot \frac{1}{3} \sin^3 x + c \quad \lambda \quad \frac{1}{\cos x} + c \quad \text{ב.} \quad 2\sqrt{\sin x} + c \quad \text{א.} \quad (10)$$

$$-\frac{1}{10} \cot 10x + c \quad \lambda \quad \frac{1}{4} \tan 4x + c \quad \text{ב.} \quad -\frac{1}{2} \cos 2x - 12 \sin \frac{x}{3} + c \quad \text{א.} \quad (11)$$

$$x - \frac{1}{2} \cos 2x + c \quad \text{ו.} \quad \frac{1}{2} \sin 2x + c \quad \text{ה.} \quad \frac{1}{2} \sin 2x + c \quad \text{ז.}$$

$$\tan x - \cot x + c \quad \text{ט.} \quad \tan x - x + c \quad \text{ח.} \quad -\frac{1}{16} \cos 4x + c \quad \text{ט.}$$

$$\frac{1}{2}x - \frac{1}{16} \sin 8x + c \quad \text{א.} \quad \frac{1}{2}x + \frac{1}{4} \sin 2x + c \quad \text{ז.}$$

$$\frac{3}{8}x + \frac{1}{4} \sin 2x + \frac{1}{32} \sin 4x + c \quad \text{ב.} \quad \frac{3}{4}x + \frac{1}{16} \sin 4x + c \quad \text{א.} \quad (12)$$

$$-\cot x - x + c \quad \text{ז.} \quad \frac{3}{8}x - \frac{1}{16} \sin 8x + \frac{1}{128} \sin 16x + c \quad \text{ג.}$$

$$-\cos x - \frac{1}{4} \cos 2x + c \quad \text{ה.}$$

מציאת פונקציה קדומה:

שאלות:

- (1) נתונה נגזרת של פונקציה: $f'(x) = 3x^2 - 7$. מצא את הפונקציה אם ידוע שהיא עוברת בנקודה $(-1, 2)$.
- (2) נתונה נגזרת של פונקציה: $f'(x) = 2x - 6$. ערך הפונקציה בנקודת הקיצון שלה הוא 5. מצא את הפונקציה.
- (3) הנגזרת של פונקציה $f(x)$ היא: $f'(x) = x^2 - 8x + 2$. נתון: $f(-2) = 1$.
 א. מצא את $f(x)$.
 ב. מצא את משוואת המשיק לגרף הפונקציה בנקודה שבה $x = 1$.
- (4) נתונה הנגזרת של פונקציה $f(x)$: $f'(x) = 9x^2 - 4$. ערך הפונקציה בנקודה $x = 1$ הוא 3.
 א. מצא את משוואת המשיק לגרף הפונקציה בנקודה שבה $x = 1$.
 ב. מצא את $f(x)$.
 ג. מצא את נקודות החיתוך של המשיק עם הצירים.
- (5) הנגזרת של פונקציה $f(x)$ היא: $f'(x) = 2x - 3$. לפונקציה משיק ששיפועו הוא -3.
 א. מצא את שיעור ה- x של נקודת ההשקה.
 ב. מצא את $f(x)$ אם ידוע כי ערך הפונקציה באותה הנקודה הוא 7.
- (6) הנגזרת של פונקציה $f(x)$ היא: $f'(x) = -6x - 5$. המשיק לפונקציה בנקודה A יוצר זווית של 45° עם הכיוון החיובי של ציר ה- x .
 א. מצא את שיעור ה- x של הנקודה A.
 ב. מצא את $f(x)$ אם ידוע כי ערך הפונקציה באותה הנקודה הוא -6.
 ג. מצא את משוואת המשיק.

- (7) הנגזרת של פונקציה $f(x)$ היא: $f'(x) = 3x - 4$.
 הישר $y = 2x + 5$ משיק לגרף הפונקציה. מצא את $f(x)$.

תשובות סופיות:

- (1) $f(x) = x^3 - 7x + 5$
- (2) $f(x) = x^2 - 6x + 14$
- (3) א. $f(x) = \frac{x^3}{3} - 4x^2 + 2x + 23\frac{2}{3}$ ב. $y = -5x + 27$
- (4) א. $y = 5x - 2$ ב. $f(x) = 3x^3 - 4x + 4$ ג. $(0, -2), (0.4, 0)$
- (5) א. $x = 0$ ב. $f(x) = x^2 - 3x + 7$
- (6) א. $x = -1$ ב. $f(x) = -3x^2 - 5x - 8$ ג. $y = x - 5$
- (7) $f(x) = \frac{3x^2}{2} - 4x + 11$

מכינה במתמטיקה להנדסת מכונות

פרק 40 - חשבון אינטגרלי - האינטגרל המסוים וחישובי שטחים

תוכן העניינים

1. האינטגרל המסוים 678
2. חישובי שטחים יסודיים 680
3. חישובי שטחים יסודיים עם פרמטרים 686
4. חישובי שטחים כאשר נתונה נגזרת הפונקציה 688
5. חישובי שטחים עם פונקציה רציונאלית 691
6. חישובי שטחים עם פונקצית שורש 693
7. חישובי שטחים עם פונקציות טריגונומטריות 697

האינטגרל המסוים:

סיכום כללי:

תהא פונקציה $f(x)$ שנגזרתה היא $f'(x)$ ($f(x)$ מוגדרת בתחום $a \leq x \leq b$).
 הקשר שבין האינטגרל המסוים לפונקציה קדומה הוא: $\int_a^b f'(x) dx = f(b) - f(a)$.

הערה:

יש להשתמש בכל כללי האינטגרציה המיידיים של הפונקציות השונות אשר נלמדו.

שאלות:

(1) חשב את ערכי הביטויים הבאים:

א. $\int_2^5 (x^2 + 5x) dx$	ב. $\int_{-4}^{-1} x^2 (x-3) dx$
ג. $\int_{-3}^3 (x^3 + 4x) dx$	ד. $\int_{-1}^1 3(2x-1)^5 dx$
ה. $\int_1^2 \frac{2}{(x-3)^2} dx$	ו. $\int_1^4 \frac{x-1}{x^3} dx$
ז. $\int_{-3}^0 \frac{2x^2 + 7x - 4}{x+4} dx$	ח. $\int_3^4 \frac{3x^2 - 7x + 2}{x-2} dx$
ט. $\int_1^2 \sqrt{3x-1} dx$	י. $\int_{-5}^0 \frac{3}{\sqrt{4-x}} dx$

(2) חשב את ערכי הביטויים הבאים:

א. $\int_0^{\pi} (\cos x) dx$	ב. $\int_0^{\pi} (\sin 2x + 1) dx$
ג. $\int_{-\frac{\pi}{2}}^{\frac{\pi}{2}} (2 \sin x - 3 \cos 2x) dx$	ד. $\int_0^{\frac{\pi}{3}} \left(\frac{3}{\cos^2 x} + 2 \right) dx$

$$(3) \quad \int_1^a (4x-7) dx \text{ : לפניך האינטגרל הבא :}$$

מצא עבור אלו ערכים של a ערך האינטגרל יהיה שווה ל-1.

$$(4) \quad \int_a^2 (x-3x^2) dx \text{ : לפניך האינטגרל הבא :}$$

א. כתוב ביטוי לערך האינטגרל כתלות ב- a .

ב. מצא עבור אלו ערכים של a ערך האינטגרל יהיה שווה ל- $\frac{a-12}{2}$.

$$(5) \quad \int_a^{a+4} \left(\frac{1}{\sqrt{x-a}} - \frac{1}{\sqrt{x+1}} \right) dx \text{ : לפניך האינטגרל הבא :}$$

א. כתוב את ערך האינטגרל כתלות ב- a .

ב. מצא את ערכו של a עבורו ערך האינטגרל יהיה שווה ל-2.

$$(6) \quad \int_0^a (\sin x + 2 \cos 2x) dx \text{ : לפניך האינטגרל הבא : } 0 < a < 3$$

מצא עבור אלו ערכים של a ערך האינטגרל יהיה שווה ל-1.

תשובות סופיות:

$$(1) \quad \text{א. } 91.5 \quad \text{ב. } -126.75 \quad \text{ג. } 0 \quad \text{ד. } -182 \quad \text{ה. } 1$$

$$\text{ו. } \frac{9}{32} \quad \text{ז. } -12 \quad \text{ח. } 9.5 \quad \text{ט. } 1.856 \quad \text{י. } .6$$

$$(2) \quad \text{א. } 0 \quad \text{ב. } \pi \quad \text{ג. } 0 \quad \text{ד. } 3\sqrt{3} + \frac{2}{3}\pi \approx 7.29$$

$$(3) \quad a = 2, 1.5$$

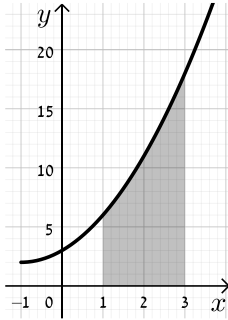
$$(4) \quad \text{א. } a^3 - \frac{1}{2}a^2 - 6 \quad \text{ב. } a = 0, 1, -\frac{1}{2}$$

$$(5) \quad \text{א. } 4 + 2(\sqrt{a+1} - \sqrt{a+5}) \quad \text{ב. } a = 1\frac{1}{4}$$

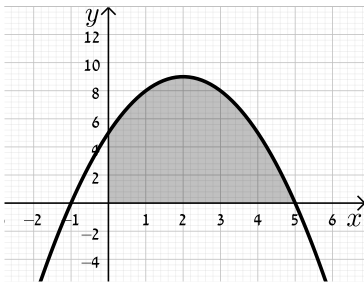
$$(6) \quad a = \frac{\pi}{6}, \frac{\pi}{2}, \frac{5\pi}{6}$$

חישובי שטחים יסודיים:

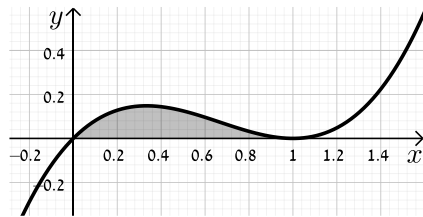
שאלות:



- (1) חשב את השטח המוגבל בין גרף הפונקציה $f(x) = x^2 + 2x + 3$, ציר ה- x והישרים $x = 1$ ו- $x = 3$.

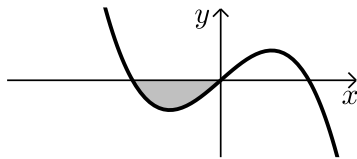


- (2) נתונה הפונקציה $y = -x^2 + 4x + 5$.
 א. מצא את נקודות החיתוך של הפונקציה עם ציר ה- x .
 ב. מצא את השטח המוגבל בין גרף הפונקציה, ציר ה- x וציר ה- y .

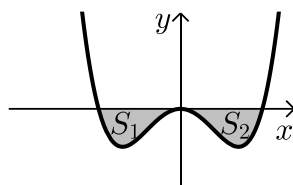


- (3) מצא את השטח המוגבל תחת הפונקציה $f(x) = x^3 - 2x^2 + x$ וציר ה- x כמתואר באיור.

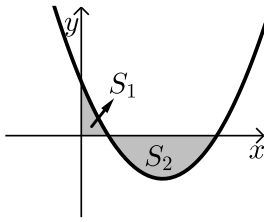
שאלות עם שטח מתחת לציר ה- x :



- (4) נתונה הפונקציה $f(x) = x(4 - x^2)$. חשב את השטח המוגבל שמתחת הפונקציה וציר ה- x שברביע השלישי.



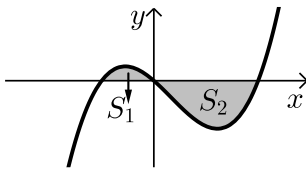
- (5) נתונה הפונקציה $f(x) = \frac{1}{2}x^4 - 2x^2$. חשב את השטח המוגבל שבין הפונקציה לציר ה- x .



- 6) חשב את האינטגרל המסוים של הפונקציה $y = x^2 - 6x + 5$ בין 0 ל-5. האם התוצאה מייצגת את סכום השטחים: $S_1 + S_2$? אם כן, הסבר. אם לא, נמק וחשב את סכום זה.

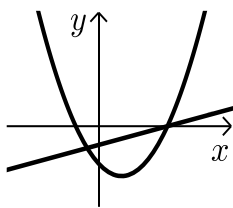
- 7) נתונה הפונקציה $y = x^3 - x^2 - 2x$.

יוצרים את השטחים S_1 ו- S_2 בין גרף הפונקציה וציר ה- x כמתואר באיור.

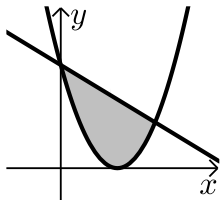


- א. מצא את נקודות החיתוך של הפונקציה עם ציר ה- x .
ב. חשב את השטח הכלוא בין גרף הפונקציה וציר ה- x .

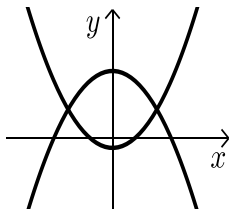
שאלות עם שטחים בין שתי פונקציות:



- 8) נתונות הפונקציות הבאות: $f(x) = x^2 - 4x - 12$ ו- $g(x) = x - 6$. חשב את גודל השטח הכלוא בין הגרפים של הפונקציות הנ"ל.



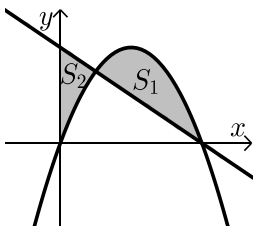
- 9) נתונות הפונקציות: $y = (x-3)^2$, $y = -x + 9$. חשב את השטח המוגבל בין שתי הפונקציות.



- 10) נתונות הפונקציות: $f(x) = x^2 - 1$, $g(x) = 7 - x^2$. חשב את גודל השטח הכלוא בין הגרפים של הפונקציות הנ"ל.

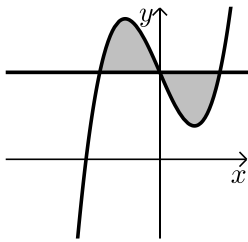
- 11) נתונות הפונקציות הבאות: $f(x) = -x^2 + 4x$ ו- $g(x) = -x + 4$.

מסמנים את השטח הכלוא בין שני הגרפים ב- S_1 ואת השטח הכלוא בין הגרפים וציר ה- y ב- S_2 כמתואר באיור.

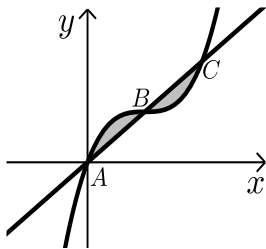


א. מצא את נקודות החיתוך של הפונקציות.

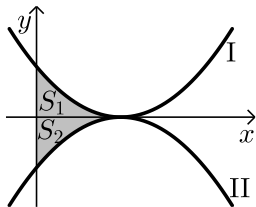
- ב. חשב את היחס שבין השטחים: $\frac{S_1}{S_2}$.



- 12** נתונה הפונקציה: $f(x) = x^3 - 4x + 5$ והישר $y = 5$.
 א. מצא את נקודות החיתוך של הפונקציה והישר.
 ב. חשב את השטח המוגבל ביניהן.

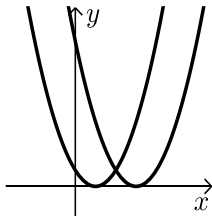


- 13** נתונה הפונקציה: $f(x) = x^3 - 3x^2 + 3x$.
 הישר AC חותך את גרף הפונקציה בנקודות
 הבאות: $A(0,0)$, $B(1,1)$, $C(2,2)$.
 חשב את השטח המוגבל בין הפונקציה לישר AC.

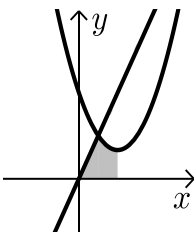


- 14** נתונות הפונקציות $f(x) = (x-2)^2$ ו- $g(x) = -(x-2)^2 - 1$ כמתואר באיור.
 א. התאם בין הפונקציות לגרפים I ו-II.
 ב. מסמנים את השטחים שבין כל פונקציה והצירים ב- S_1 ו- S_2 כמתואר באיור.
 הראה כי השטחים S_1 ו- S_2 שווים זה לזה.

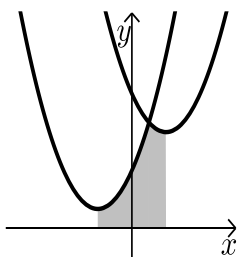
שאלות עם שטחים מורכבים:



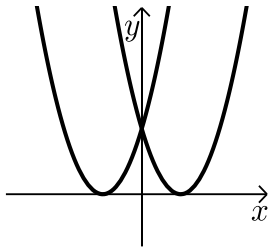
- 15** נתונות הפונקציות: $f(x) = x^2 - 2x + 1$, $g(x) = x^2 - 6x + 9$.
 חשב את גודל השטח הכלוא בין הפונקציות
 ובין ציר ה- x .



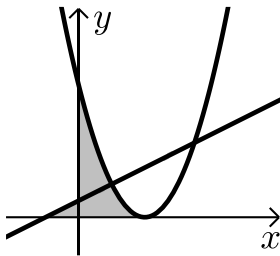
- 16** נתונות הפונקציות: $y = 3x$, $y = x^2 - 4x + 6$.
 א. מצא את קדקוד הפרבולה.
 ב. מצא נקודת חיתוך של הפרבולה עם הישר
 שמשמאל לקדקוד הפרבולה.
 ג. חשב את השטח המסומן שבשרטוט.



- 17** נתונות הפונקציות: $y = x^2 - 4x + 14$, $y = x^2 + 4x + 6$.
 א. מצא את שיעורי ה- x של קודקודי הפרבולות.
 ב. חשב את נקודת החיתוך בין שתי הפונקציות.
 ג. חשב את השטח המסומן בשרטוט.

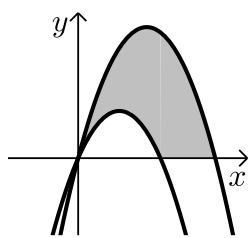


(18) נתונות הפונקציות: $f(x) = (x-3)^2$, $g(x) = (x+3)^2$.
חשב את השטח המוגבל בין שתי הפונקציות וציר ה- x .

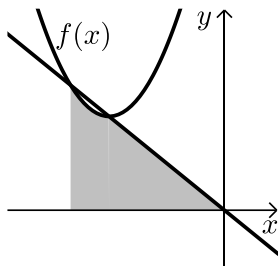


(19) נתונות שתי הפונקציות: $y = \frac{1}{2}x + \frac{1}{2}$, $y = (x-2)^2$.

- א. מצא את השטח המוגבל בין שתי הפונקציות לציר ה- x .
ב. מצא את השטח המוגבל בין שתי הפונקציות לציר ה- y .

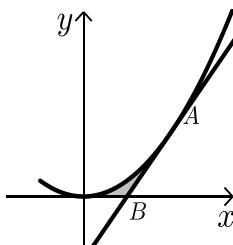


(20) נתונות הפרבולות הבאות: $f(x) = -x^2 + 5x$ ו- $g(x) = -x^2 + 3x$.
חשב את השטח המוגבל בין הגרפים של הפרבולות וציר ה- x .



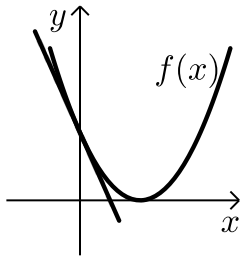
(21) נתונה הפונקציה: $f(x) = x^2 + 6x + 12$.

- ישר העובר בראשית הצירים חותך את גרף הפונקציה בנקודה שבה $x = -4$ כמתואר באיור.
א. מצא את משוואת הישר.
ב. מצא את נקודת החיתוך השנייה של הישר והפונקציה.
ג. מצא את השטח המוגבל בין הישר, גרף הפונקציה, ציר ה- x והישר $x = -4$.



(22) נתונה הפונקציה: $y = 2x^2$.

- מעבירים משיק לגרף הפונקציה מהנקודה: $A(1, 2)$.
המשיק חותך את ציר ה- x בנקודה B .
חשב את השטח המוגבל בין הפונקציה, המשיק וציר ה- x .



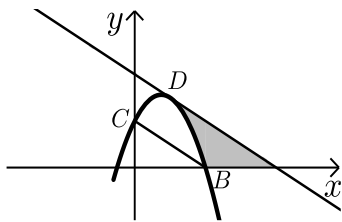
(23) נתונה הפונקציה: $f(x) = (x-2)^2$.

מנקודת החיתוך שלה עם ציר ה- y מעבירים משיק.

א. מצא את משוואת המשיק.

ב. מצא את נקודת החיתוך של המשיק עם ציר ה- x .

ג. חשב את השטח הכלוא בין המשיק, גרף הפונקציה וציר ה- x .



(24) משוואת הפרבולה היא: $f(x) = -2x^2 + 3x + 2$.

הנקודות $B(2,0)$, $C(0,2)$ הן נקודות חיתוך

של הפרבולה עם הצירים.

המשיק לפרבולה בנקודה D מקביל לישר BC .

א. מצא את משוואת המשיק.

ב. מצא את השטח המוגבל בין הפרבולה, המשיק וציר ה- x .

ג. מצא את השטח המוגבל בין הפרבולה, המשיק וציר ה- y .

תשובות סופיות:

(1) $22\frac{2}{3}$ יח"ש.

(2) א. $(-1,0)$, $(5,0)$. ב. $33\frac{1}{3}$ יח"ש.

(3) $\frac{1}{12}$ יח"ש.

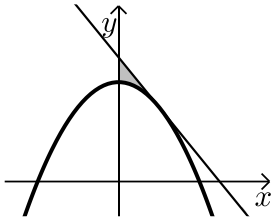
(4) 4 יח"ש.

(5) $4\frac{4}{15}$ יח"ש.

- (6) לא. השטח הוא: 13 יח"ש.
- (7) א. $(-1,0)$, $(0,0)$, $(2,0)$ ב. $3\frac{1}{12}$ יח"ש.
- (8) $57\frac{1}{6}$ יח"ש.
- (9) $20\frac{5}{6}$ יח"ש.
- (10) $21\frac{1}{3}$ יח"ש.
- (11) א. $(1,3)$, $(4,0)$ ב. $2\frac{5}{11}$.
- (12) א. $(-2,5)$, $(0,5)$, $(2,5)$ ב. 8 יח"ש.
- (13) 0.5 יח"ש.
- (14) א. $f(x)=I$, $g(x)=II$ ב. הוכחה.
- (15) $\frac{2}{3}$ יח"ש.
- (16) א. $(2,2)$ ב. $(1,3)$ ג. $3\frac{5}{6}$ יח"ש.
- (17) א. $x=2$, $x=-2$ ב. $(1,11)$ ג. $25\frac{1}{3}$ יח"ש.
- (18) 18 יח"ש.
- (19) א. $\frac{4}{3}$ יח"ש ב. $1\frac{7}{12}$ יח"ש.
- (20) $16\frac{1}{3}$ יח"ש.
- (21) א. $y=-x$ ב. $(-3,3)$ ג. $7\frac{5}{6}$ יח"ש.
- (22) $\frac{1}{6}$ יח"ש.
- (23) א. $y=-4x+4$ ב. $(1,0)$ ג. $\frac{2}{3}$ יח"ש.
- (24) א. $y=-x+4$ ב. $2\frac{2}{3}$ יח"ש. ג. $\frac{2}{3}$ יח"ש.

חישובי שטחים יסודיים עם פרמטרים:

שאלות:

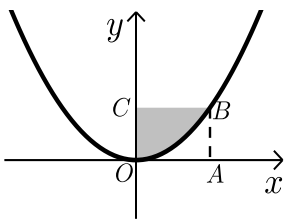


(25) נתונה הפרבולה: $y = ax^2 + 8$.

שיפוע המשיק לגרף הפרבולה בנקודה שבה $x = 2$ הוא -2 .

א. חשב את a .

ב. חשב את השטח המוגבל על ידי המשיק, הפרבולה וציר y .



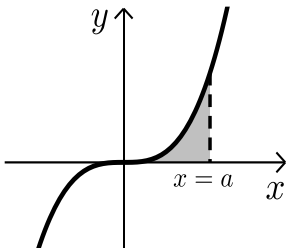
(26) הפונקציה המתוארת בשרטוט היא: $y = ax^2$ (a פרמטר).

המרובע ABCO הוא ריבוע.

הקדקוד B נמצא על גרף הפונקציה.

ידוע כי אורך צלע הריבוע היא 2 יחידות.

מצא את ערך הפרמטר a ואת השטח המסומן בשרטוט.



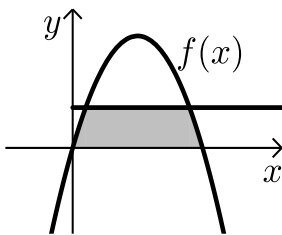
(27) נתונה הפונקציה $y = x^3$.

מעבירים אנך לציר ה- x : $x = a$ (a פרמטר חיובי)

כך שנוצר שטח הכלוא בין האנך, גרף הפונקציה וציר ה- x .

א. הבע באמצעות a את השטח המקווקו בציור.

ב. חשב את a אם ידוע כי שטח זה שווה ל- a^2 .



(28) נתונה הפונקציה: $f(x) = kx - x^2$.

הישר $y = 9$ חותך את גרף הפונקציה בשתי נקודות.

ידוע כי שיעור ה- x של אחת מנקודות החיתוך

הוא $x = 9$.

א. מצא את ערך הפרמטר k .

ב. מצא את נקודת החיתוך השנייה בין שני הגרפים.

ג. חשב את השטח המוגבל בין גרף הפונקציה,

הישר וציר ה- x (השטח המסומן).

תשובות סופיות:

$$\text{(25) א. } a = -\frac{1}{2} \quad \text{ב. } \frac{4}{3} \text{ יח"ש.}$$

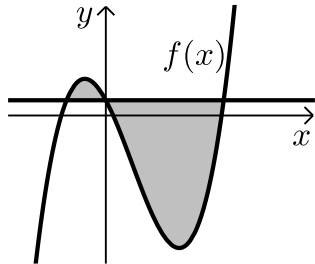
$$\text{(26) } a = \frac{1}{2}, \quad 2\frac{2}{3} \text{ יח"ש.}$$

$$\text{(27) א. } \frac{a^4}{4} \quad \text{ב. } a = 2$$

$$\text{(28) א. } k = 10 \quad \text{ב. } (1, 9) \quad \text{ג. } 81\frac{1}{3} \text{ יח"ש.}$$

חישובי שטחים כאשר נתונה נגזרת הפונקציה:

שאלות:



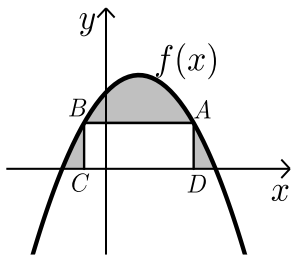
29 נגזרת הפונקציה $f(x)$ היא: $f'(x) = 3x^2 - 8x - 12$.

הישר $y = 5$ חותך את גרף הפונקציה $f(x)$ על ציר ה- y .

א. מצא את הפונקציה $f(x)$.

ב. מצא את השטח המוגבל בין הישר והפונקציה.

30 הנגזרת של הפונקציה $f(x)$ המתוארת באיור שלפניך היא: $f'(x) = 3 - 2x$.



ישר AB שמשוואתו: $y = 6$ חותך את גרף הפונקציה $f(x)$ בנקודות A ו-B.

מנקודות אלו מורידים אנכים לציר ה- x כך שנוצר מלבן ABCD.

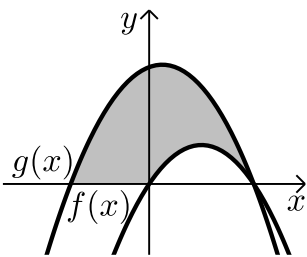
ידוע ששיעור ה- x של הנקודה A הוא 4.

א. מצא את הפונקציה $f(x)$.

ב. חשב את השטח הכלוא בין גרף הפונקציה, המלבן וציר ה- x .

31 באיור שלפניך מתוארות הפונקציות שנגזרותיהן: $f'(x) = 4 - 2x$, $g'(x) = -2x + 1$.

ידוע ששתי הפונקציות חותכות את ציר ה- x כאשר: $x = 4$.

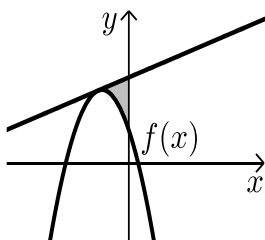


א. מצא את הפונקציות.

ב. חשב את השטח המוגבל בין הגרפים של שתי הפונקציות וציר ה- x (המסומן).

32 נתונה פונקציה $f(x)$.

משוואת המשיק לפונקציה $f(x)$ בנקודה שבה: $x = -2$ היא: $y = x + 13$.



הנגזרת של הפונקציה היא: $f'(x) = -4x - 7$.

א. מצא את הפונקציה $f(x)$.

ב. חשב את השטח הכלוא בין המשיק, גרף הפונקציה וציר ה- y .

33 נתונה פונקציה $f(x)$ שנגזרתה היא: $f'(x) = 3x^2 - 6x - 9$.

ישר ששיפועו 15 משיק לפונקציה ברביע הרביעי בנקודה שבה: $y = -20$.

א. מצא את הפונקציה $f(x)$.

ב. האם יש עוד משיקים לגרף הפונקציה בעלי שיפוע 15? אם כן- מצא אותם.

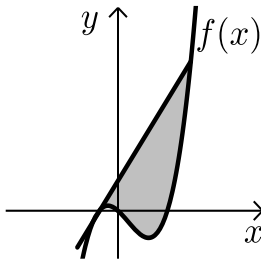
ג. ענה על הסעיפים הבאים:

i. הראה כי הנקודה שבה $x = 7$ משותפת למשיק

שמצאת בסעיף הקודם ולפונקציה $f(x)$.

ii. מצא את השטח הכלוא בין גרף הפונקציה

והמשיק שמצאת בסעיף הקודם (ראה איור).



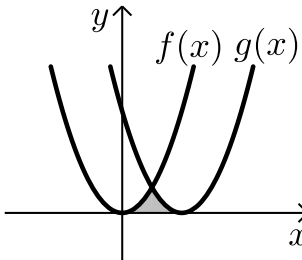
34 באיור שלפניך חותך גרף הפונקציה: $f(x) = x^2$

את גרף הפונקציה $g(x)$ בנקודה שבה $x = 2$.

הנגזרת של הפונקציה $g(x)$ היא: $g'(x) = 2x - 8$.

א. מצא את הפונקציה $g(x)$.

ב. חשב את השטח הכלוא בין שני הגרפים וציר ה- x (המסומן).



35 באיור שלפניך מתוארים גרף הפונקציה $f(x)$ והישר $y = 2x$.

נגזרת הפונקציה $f(x)$ היא: $f'(x) = 2x - 6$

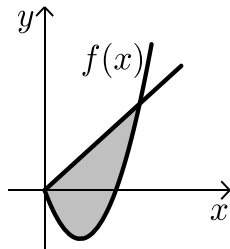
וידוע כי הישר חותך את הפונקציה בנקודה שבה ערך

ה- y הוא 16.

א. מצא את הפונקציה $f(x)$.

ב. האם יש לגרף הפונקציה ולישר עוד נקודות חיתוך? אם כן מצא אותן.

ג. חשב את השטח המוגבל בין גרף הפונקציה והישר.



תשובות סופיות:

29 א. $f(x) = x^3 - 4x^2 - 12x + 5$ ב. $189\frac{1}{3}$ יח"ש.

30 א. $f(x) = -x^2 + 3x + 10$ ב. $27\frac{1}{6}$ יח"ש.

31 א. $f(x) = 4x - x^2$, $g(x) = -x^2 + x + 12$ ב. 46.5 יח"ש.

32 א. $f(x) = -2x^2 - 7x + 5$ ב. $5\frac{1}{3}$ יח"ש.

33 א. $f(x) = x^3 - 3x^2 - 9x$ ב. $y = 15x + 28$

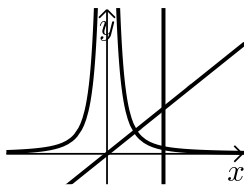
ג. i. (7,133) ג. ii. 546.75 יח"ש.

34 א. $g(x) = (x-4)^2$ ב. $5\frac{1}{3}$ יח"ש.

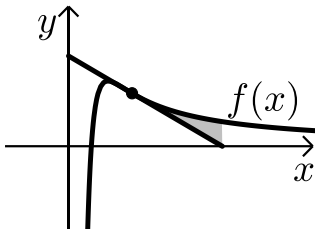
35 א. $f(x) = x^2 - 6x$ ב. (0,0) ג. $85\frac{1}{3}$ יח"ש.

חישובי שטחים עם פונקציה רציונאלית:

שאלות:

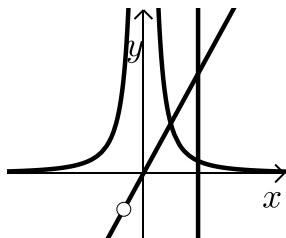


- (1) נתונות שתי פונקציות: $f(x) = \frac{1}{x^2}$, $g(x) = x$.
חשב את גודל השטח הכלוא בין הפונקציות,
הישר $x=2$ וציר ה- x .



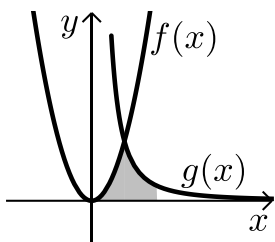
- (2) ענה על הסעיפים הבאים:

- א. מבין כל המשיקים לגרף הפונקציה: $f(x) = \frac{2}{x^2} - \frac{1}{x^3}$, מצא את משוואת המשיק ששיפועו מינימלי.
ב. באיור שלפניך מתוארים הגרפים של הפונקציה והמשיק שמצאת בסעיף א'.
חשב את השטח הכלוא בין גרף הפונקציה, המשיק ואנך לציר ה- x היוצא מנקודת החיתוך של המשיק עם ציר ה- x .



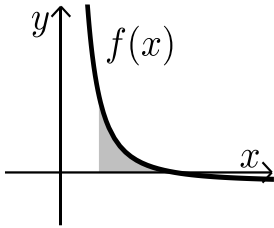
- (3) נתונות שתי פונקציות: $f(x) = \frac{1}{x^2}$, $g(x) = \frac{x^2 + 2x}{x + 2}$.
חשב את גודל השטח הכלוא בין הפונקציות,
הישר $x=2$ וציר ה- x .

- (4) באיור שלפניך מתוארים הגרפים של הפונקציות: $f(x) = 2x^2$ ו- $g(x) = \frac{a}{x^2}$



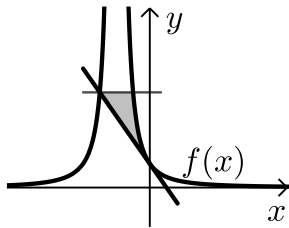
- (a קבוע) בתחום: $x > 0$.
ידוע כי הגרפים נחתכים ברביע הראשון בנקודה הנמצאת על הישר: $y = 4x$.
א. מצא את נקודת החיתוך של הגרפים ואת a .
ב. חשב את השטח המוגבל בין שני הגרפים, ציר ה- x והישר: $x = 4$.

5) גרף הפונקציה: $f(x) = \frac{a-x^2}{x^2}$ (קבוע a) חותך את ציר ה- x בנקודה $(6,0)$.



- א. מצא את a וכתוב את הפונקציה.
- ב. חשב את השטח המוגבל בין גרף הפונקציה, ציר ה- x והישר: $x=2$.

6) נתונה הפונקציה: $f(x) = \frac{A}{(2x+A)^2}$ (A פרמטר חיובי).



ידוע כי שיפוע הפונקציה בנקודת החיתוך שלה עם ציר ה- y הוא: $-\frac{1}{9}$.

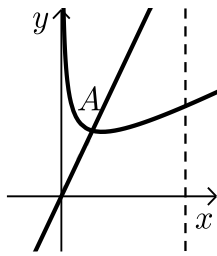
- א. מצא את ערך הפרמטר A .
- ב. כתוב את משוואת המשיק לגרף הפונקציה בנקודת החיתוך עם ציר ה- y .
- ג. הראה כי המשיק חותך את גרף הפונקציה בנקודה שבה: $x = -4.5$.
- ד. העבר ישר אופקי מנקודת החיתוך של המשיק וגרף הפונקציה מהסעיף הקודם. מצא את נקודת החיתוך הנוספת של ישר זה עם גרף הפונקציה.
- ה. חשב את השטח כלוא בין המשיק, הישר וגרף הפונקציה (היעזר באיור).

תשובות סופיות:

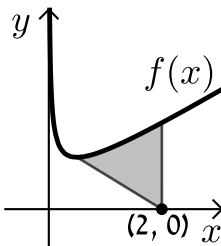
- 1) 1 יח"ש.
- 2) א. $y = -x + 2$.
- 3) 1 יח"ש.
- 4) א. $a = 32$, $(2,8)$.
- 5) א. $a = 36$, $f(x) = \frac{36-x^2}{x^2}$.
- 6) א. $A = 6$.
- ב. $\frac{1}{8}$ יח"ש.
- ב. $13\frac{1}{3}$ יח"ש.
- ב. 8 יח"ש.
- ב. $y = -\frac{1}{9}x + \frac{1}{6}$.
- ה. $\frac{5}{8}$ יח"ש.
- ד. $(-1.5, \frac{2}{3})$.
- ג. הוכחה.

חישובי שטחים עם פונקצית שורש:

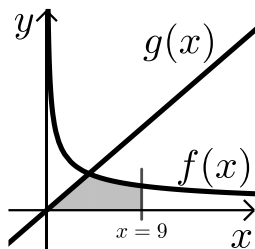
שאלות:



- (1) באיור שלפניך נתונה הפונקציה: $f(x) = \frac{3}{\sqrt{x}} + x$.
 מעבירים ישר: $y = 4x$ החותך את גרף הפונקציה
 בנקודה A המסומנת באיור.
 א. מצא את שיעורי הנקודה A.
 ב. חשב את השטח הכלוא בין גרף הפונקציה $f(x)$,
 הישר $y = 4x$, ציר ה- x ואנך לציר ה- x : $x = 4$.

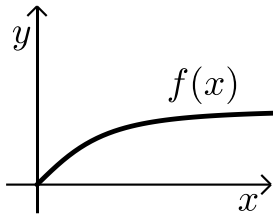


- (2) באיור שלפניך נתונה הפונקציה: $f(x) = \frac{1}{\sqrt{2x}} + x$.
 א. מצא את נקודת המינימום שלה.
 ב. מנקודת המינימום של הפונקציה מעבירים
 ישר לנקודה $(2, 0)$ שעל ציר ה- x .
 מצא את השטח הכלוא בין גרף הפונקציה, הישר ואנך לציר ה- x
 היוצא מהנקודה $(2, 0)$ עד לנקודת החיתוך עם גרף הפונקציה.

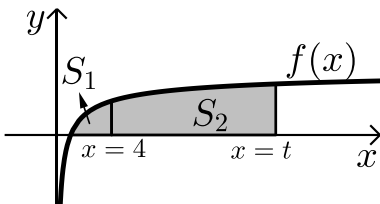


- (3) באיור הבא מתוארים הגרפים של
 הפונקציות: $f(x) = \frac{16}{\sqrt{x}}$ ו- $g(x) = 2x - 1$.
 א. מצא את נקודת החיתוך של הגרפים.
 ב. חשב את השטח המוגבל בין שני הגרפים,
 ציר ה- x והישר $x = 9$.

- (4) נתונה הפונקציה: $f(x) = (x - 6)\sqrt{x}$.
 חשב את גודל השטח הכלוא בין הפונקציה, המשיק לפונקציה בנקודת
 המינימום שלה וציר ה- y .



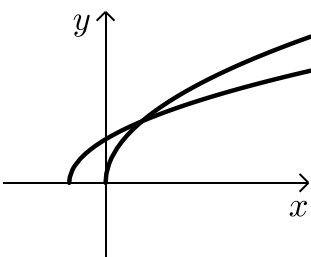
- (5) נתונה הפונקציה $f(x) = \frac{x}{\sqrt{x^2+1}}$ ברביע הראשון. לפונקציה העבירו משיק העובר בראשית הצירים. חשב את גודל השטח הכלוא בין הפונקציה, המשיק והישר $x = \sqrt{3}$.



- (6) באיור שלפניך מתואר גרף הפונקציה: $f(x) = 1 - \frac{1}{\sqrt{x}}$. מעבירים שני אנכים לציר ה- x והם: $x = 4$ ו- $x = t$ ($t > 4$). נסמן:
 S_1 - השטח הכלוא בין גרף הפונקציה וציר ה- x .
 S_2 - השטח הכלוא בין גרף הפונקציה, ציר ה- x והאנכים. ידוע כי: $8S_1 = S_2$. מצא את t .

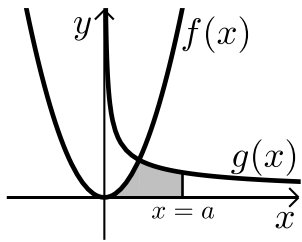
(7) נתונה הפונקציה: $f(x) = \frac{x\sqrt{x}-8}{\sqrt{x}}$

- א. ענה על הסעיפים הבאים:
 i. מצא את תחום ההגדרה של הפונקציה.
 ii. מצא את נקודת החיתוך של הפונקציה עם ציר ה- x .
 iii. הראה כי הפונקציה עולה בכל תחום הגדרתה.
 ב. מעבירים משיק לגרף הפונקציה ששיפועו הוא: $m = \frac{17}{16}$. מצא את נקודת ההשקה.
 ג. חשב את השטח הכלוא בין גרף הפונקציה, ציר ה- x ואנך לציר ה- x מנקודת ההשקה שמצאת בסעיף הקודם.



- (8) נתונות שתי פונקציות: $f(x) = \sqrt{x+b}$, $g(x) = \sqrt{2x}$ ($b > 0$). גודל השטח הכלוא בין הפונקציות וציר ה- x הוא $2\frac{2}{3}$ יח"ש. מצא את ערכו של הפרמטר b .

9) באיור שלפניך מתוארים הגרפים של הפונקציות: $f(x) = x^2$



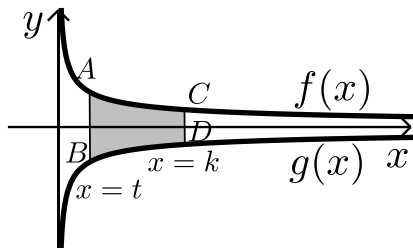
ו- $g(x) = \frac{32}{\sqrt{x}}$ ברביע הראשון.

מעבירים ישר $x=a$ החותך את גרף הפונקציה $g(x)$ ויוצר את השטח הכלוא בין שני הגרפים, ציר ה- x והישר.

ידוע כי שטח זה שווה ל- $S = 85\frac{1}{3}$.

מצא את a .

10) באיור שלפניך מתוארים הגרפים של הפונקציות: $f(x) = \frac{3}{\sqrt{x}}$ ו- $g(x) = -\frac{3}{\sqrt{x}}$



מעבירים שני ישרים: $x=k$ ו- $x=t$ אשר חותכים את הגרפים של הפונקציות ויוצרים את הקטעים AB ו-CD.

ידוע כי: $2CD=AB$.

א. הראה כי: $k=4t$.

ב. השטח הכלוא בין הגרפים של הפונקציות

והישרים: $x=t$ ו- $x=k$ הוא: $S=12$.

מצא את t .

11) ענה על הסעיפים הבאים:

א. מצא עבור איזה ערך של a , $(a > 1)$ יתקיים: $\int_1^a \left(\frac{3}{\sqrt{2x-1}} - 1 \right) dx = 0$.

ב. באיור שלפניך מתואר גרף הפונקציה: $f(x) = \frac{3}{\sqrt{2x-1}} - 1$

מעבירים שני אנכים לציר ה- x והם: $x=1$ ו- $x=13$

כך שנוצרים השטחים S_1 ו- S_2 .

מצא את נקודת החיתוך של הפונקציה עם ציר ה- x

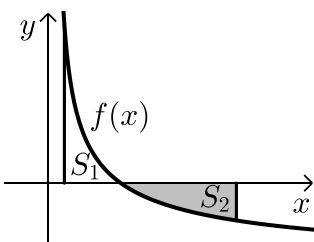
ג. ענה על הסעיפים הבאים:

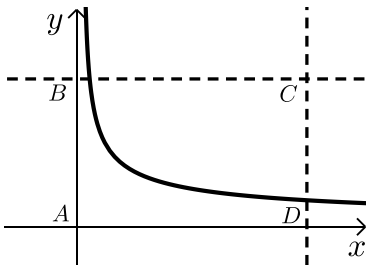
i. חשב את השטח הכלוא בין גרף הפונקציה,

ציר ה- x והאנך $x=1$, (S_1) .

ii. היעזר בתוצאה שקיבלת ובסעיף א' וקבע לכמה שווה השטח S_2 .

נמק את טענתך.





(12) באיור שלפניך מתוארת הפונקציה: $f(x) = \frac{9}{\sqrt{2x-1}}$

מעבירים את הישרים המקבילים לצירים: $x = 13$

ו- $y = 3$ כך שנוצר המלבן ABCD כמתואר באיור.

הישר $y = 3$ חותך את גרף הפונקציה בנקודה M.

א. מצא את שיעורי הנקודה M.

ב. מסמנים את השטח הכלוא בין גרף הפונקציה

והישרים ב- S_1 ואת שטח המלבן ב- S_2 .

$$\text{הראה כי: } \frac{S_1}{S_2} = \frac{2}{13}$$

תשובות סופיות:

1) א. $A(1,4)$ ב. 15.5 יח"ש.

2) א. $\min(0.5, 1.5)$ ב. 1.75 יח"ש.

3) א. $(4,8)$ ב. 48 יח"ש.

4) 2.26 יח"ש.

5) 0.5 יח"ש

6) $t = 16$

7) א. i. $x > 0$ ii. $(4,0)$ iii. $f'(x) = 1 + \frac{4}{x\sqrt{x}} > 0$

ב. $(16,14)$ ג. 88 יח"ש.

8) $b = 2$

9) $a = 9$

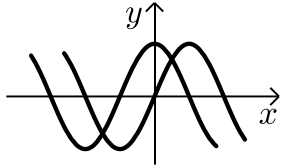
10) א. הוכחה ב. $t = 1$

11) א. $a = 13$ ב. $(5,0)$ ג. i. $S_1 = 2$ ii. $S_2 = |-S_1| = 2$

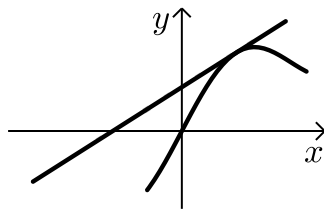
12) א. $M(5,3)$

חישובי שטחים עם פונקציות טריגונומטריות:

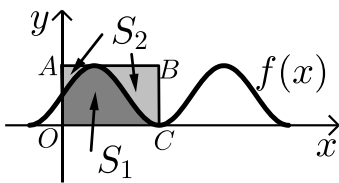
שאלות:



- (1) נתונות הפונקציות: $f(x) = \sin x$, $g(x) = \cos x$.
חשב את גודל השטח הכלוא בין הפונקציות לציר ה- y ברביע הראשון.



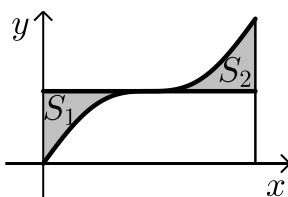
- (2) נתונה הפונקציה: $f(x) = x + 2 \sin x$.
בתחום שבין ראשית הצירים לנקודת המקסימום הראשונה מימינה העבירו לפונקציה משיק ששיפועו 1.
א. מצא את משוואת המשיק.
ב. חשב את גודל השטח הכלוא בין הפונקציה, המשיק וציר ה- x ברביעים הראשון והשני.



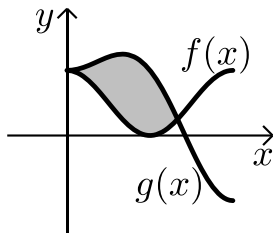
- (3) באיור שלפניך מתואר גרף הפונקציה: $f(x) = \frac{\sin 2x + 1}{2}$.
בתחום: $-0.25\pi \leq x \leq 1.75\pi$ מעבירים משיק AB דרך נקודת המקסימום של הפונקציה ומעלים אנך לציר ה- x מנקודת החיתוך הראשונה של גרף הפונקציה עם ציר ה- x בתחום הנתון המסומנת ב- C כך שנוצר המלבן $ABCO$.
השטח הכלוא בין גרף הפונקציה והצירים יסומן ב- S_1 (ראה סימון בציור).
השטח הכלוא בין צלעות המלבן, גרף הפונקציה וציר ה- y יסומן ב- S_2 .
א. מצא את משוואת הצלע AB של המלבן.
ב. חשב את היחס: $\frac{S_1}{S_2}$.

- (4) באיור שלפניך נתונה הפונקציה: $y = \sin x + x$ בתחום: $0 \leq x \leq 2\pi$.

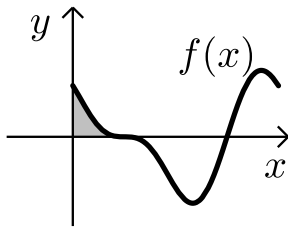
- א. האם יש לפונקציה נקודות קיצון פנימיות בתחום הנתון?
ב. מורידים אנך מגרף הפונקציה לציר ה- x בנקודה שבה: $x = 2\pi$.
מעבירים ישר המקביל לציר ה- x מהנקודה שמאפסת את הנגזרת.



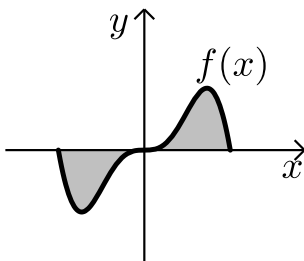
הראה כי השטחים S_1 ו- S_2 המסומנים בסרטוט שווים.



- 5) באיור שלפניך מתוארים הגרפים של הפונקציה
 הבאות: $f(x) = \cos^2 x$ ו- $g(x) = \sin^2 x + \cos x - 1$
 בתחום: $0 \leq x \leq \pi$.
 א. מצא את נקודות החיתוך של הגרפים בתחום הנתון.
 ב. חשב את השטח הכלוא בין שני הגרפים.
 השתמש בזהות: $\cos 2\alpha = \cos^2 \alpha - \sin^2 \alpha$.



- 6) הנגזרת של הפונקציה $f(x)$ היא: $f'(x) = -\cos 2x - \sin x$.
 א. מצא את שיעורי ה- x של הנקודות
 המקיימות: $f'(x) = 0$ בתחום: $0 < x < 2\pi$.
 ידוע כי הנקודה המקיימת $f'(x) = 0$ אשר אינה
 קיצון נמצאת על ציר ה- x .
 ב. מצא את הפונקציה $f(x)$.
 ג. באיור שלפניך מתואר גרף הפונקציה בתחום הנתון.
 חשב את השטח הכלוא בין גרף הפונקציה והצירים.



- 7) ענה על הסעיפים הבאים:
 א. נתונה הפונקציה: $y = -x^2 \cos x + 2x \sin x + 2 \cos x$
 הוכח כי הנגזרת של הפונקציה היא: $y' = x^2 \sin x$
 באיור שלפניך נתונה הפונקציה: $f(x) = x^2 \sin x$
 בתחום: $-\pi \leq x \leq \pi$.
 ב. הראה כי גרף הפונקציה עובר בראשית הצירים.
 ג. חשב את השטח הכלוא בין גרף הפונקציה
 וציר ה- x בתחום הנתון.

- 8) נתונה הפונקציה: $f(x) = a \cos x + b \sin x$, פרמטרים.
 הפונקציה חותכת את ציר ה- x בנקודה שבה $x = \frac{\pi}{4}$ והיא חיובית בתחום $\left[0, \frac{\pi}{4}\right]$.
 גודל השטח הכלוא מתחת לפונקציה בתחום $\left[0, \frac{\pi}{4}\right]$ הוא $2\sqrt{2} - 2$.
 מצא את ערכי הפרמטרים a ו- b .

תשובות סופיות:

- (1) 0.41 יח"ש.
- (2) א. $y = x + 2$. ב. π יח"ש.
- (3) א. $y = 1$. ב. $\frac{S_1}{S_2} = \frac{3\pi + 2}{3\pi - 2} = 1.538$.
- (4) א. אין נקודת קיצון, הנקודה (π, π) היא נקודת פיתול.
 ב. $S = 0.5\pi^2 - 2 = 2.934$.
- (5) א. $(0, 1)$, $(\frac{2\pi}{3}, \frac{1}{4})$. ב. $S = 1.5 \frac{\sqrt{3}}{2} = 1.299$.
- (6) א. $x = \frac{\pi}{2}, \frac{7\pi}{6}, \frac{11\pi}{6}$. ב. $f(x) = -\frac{1}{2} \sin 2x + \cos x$. ג. $\frac{1}{2}$ יח"ש.
- (7) א. הוכחה. ב. הוכחה. ג. $S = 2(\pi^2 - 4) \approx 11.74$.
- (8) $b = -2, a = 2$.

מכינה במתמטיקה להנדסת מכונות

פרק 41 - חשבון אינטגרלי - פונקציה מעריכית, לוגריתמית וחזקה

תוכן העניינים

- 700 1. פונקציה מעריכית.
- 706 2. פונקציה לוגריתמית.
- 712 3. פונקצית חזקה עם מעריך רציונאלי.

פונקציה מעריכית:

סיכום כללי:

אינטגרלים מיידיים של פונקציות מעריכיות:

אינטגרלים יסודיים	אינטגרלים של פונקציות מורכבות
$\int a^x dx = \frac{a^x}{\ln a} + c$	$\int a^{mx+n} dx = \frac{a^{mx+n}}{m \cdot \ln a} + c$
$\int e^x dx = e^x + c$	$\int e^{mx+n} dx = \frac{e^{mx+n}}{m} + c$

שאלות:

אינטגרל כללי:

(1) חשב את האינטגרלים הבאים:

א. $\int (5e^x - e^{3x} + e^{-x} + 1) dx$

ג. $\int (6\sqrt{e^{4x-1}}) dx$

ב. $\int (3^x + 5^{2x}) dx$

ד. $\int (e^x + e^{-x})^2 dx$

(2) חשב את האינטגרלים הבאים:

א. $\int \frac{e^{2x} - 1}{e^x - 1} dx$

ב. $\int \frac{3e^{3x} - 5e^{2x} + 4e^x - 2}{e^x - 1} dx$

(3) חשב את האינטגרלים הבאים:

א. $\int (e^{4x} + e^{-x}) dx$

ג. $\int \frac{2^x + 4^{2x} + 10^{3x}}{5^x} dx$

ב. $\int (e^{x+1})^2 dx$

ד. $\int \left(4\sqrt{e^x} + \frac{1}{\sqrt[3]{e^{4x}}} \right) dx$

4) חשב את האינטגרלים הבאים:

א. $\int \left(\frac{e^x}{\sqrt{e^x+3}} \right) dx$ ב. $\int \left(\frac{3-e^x}{(e^x-3x)^2} \right) dx$ ג. $\int (xe^{x^2}) dx$

אינטגרל מסוים:

5) נתונה נגזרת של פונקציה: $f'(x) = 2e^x - \frac{1}{e^x}$.

מצא את הפונקציה אם ידוע שהיא עוברת בנקודה $\left(\ln 2, 3\frac{1}{4} \right)$.

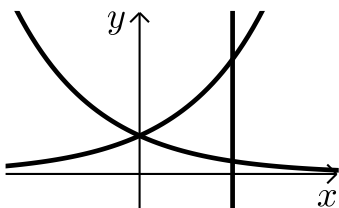
6) נתונה נגזרת של פונקציה: $f'(x) = e^{2x} + e^x - 2$.

מצא את הפונקציה אם ידוע שערך הפונקציה בנקודת המינימום שלה הוא $\frac{1}{2}$.

7) נתונה נגזרת של פונקציה: $f'(x) = 6x^2e^{x^3} - \frac{1}{x^2}$.

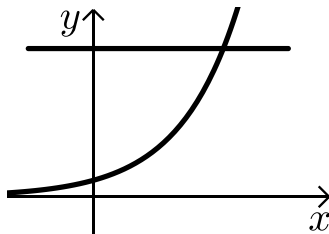
מצא את הפונקציה אם ידוע שהיא עוברת בנקודה $\left(-1, \frac{2}{e} \right)$.

חישובי שטחים:



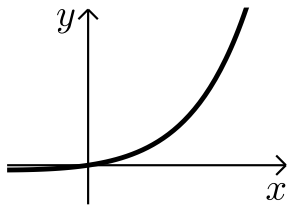
8) נתונות הפונקציות: $f(x) = e^x$, $g(x) = e^{-x}$.

מצא את גודל השטח הכלוא בין הפונקציות לישר $x = \ln 3$.

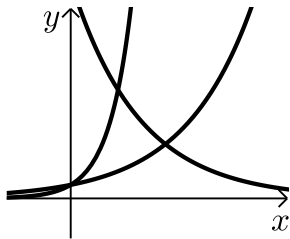


9) נתונה הפונקציה: $f(x) = 3^x$.

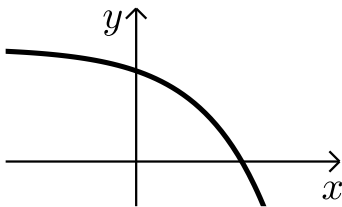
מצא את גודל השטח הכלוא בין הפונקציה, הישר $y = 9$ וציר ה- y .



- 10** נתונה הפונקציה: $f(x) = e^{2x} - e^x$.
 לפונקציה העבירו משיק בראשית הצירים.
 מצא את גודל השטח הכלוא בין הפונקציה,
 המשיק והישר $x = 2$.



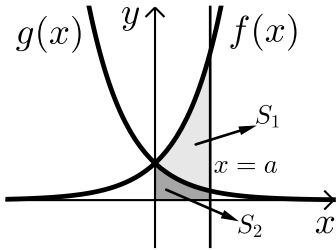
- 11** נתונות הפונקציות:
 $f(x) = e^x$, $g(x) = e^{3x}$, $h(x) = 16e^{-x}$.
 חשב את גודל השטח הכלוא שבין שלוש הפונקציות.



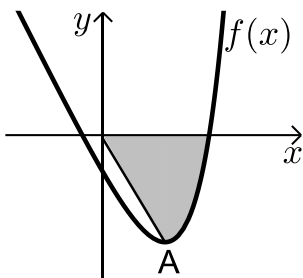
- 12** נתונה הפונקציה: $f(x) = 5 - e^x$.
 העבירו לפונקציה משיק ששיפועו $-e$.
 חשב את גודל השטח הכלוא בין
 הפונקציה, המשיק וציר ה- x .
 ניתן להשאיר e ו- \ln בתשובה.

- 13** נתונה הפונקציה: $f(x) = e^{bx}$, $(0 < b)$.
 גודל השטח הכלוא בין הפונקציה, המשיק לפונקציה העובר
 בראשית הצירים וציר ה- y הוא $\frac{e-2}{4}$.
 מצא את ערכו של הפרמטר b .

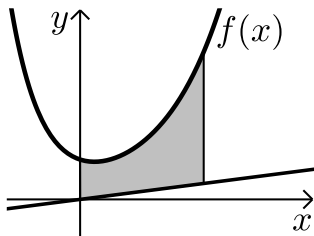
- 14** נתונות הפונקציות: $f(x) = e^{\frac{1}{2}x}$, $g(x) = e^{-x}$.
 מנקודה הנמצאת על גרף הפונקציה $g(x)$ ברביע הראשון הורידו אנך לשני
 הצירים. המשך האנך לציר ה- y חותך את הפונקציה $f(x)$ ומנקודת החיתוך
 יורד אנך נוסף לציר ה- x כך שנוצר מלבן.
 הוכח כי שטחו המקסימלי של מלבן כזה הוא $\frac{3}{e}$.



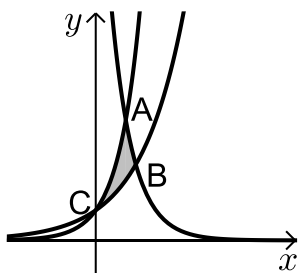
- 15** באיור שלפניך מתוארים הגרפים של הפונקציות: $f(x) = e^{2x}$ ו- $g(x) = e^{-2x} - 1$. מעבירים אנך לציר ה- x את הישר $x = a$, $a > 0$, כמתואר באיור. אנך זה יוצר את השטחים S_1 ו- S_2 . ידוע כי השטח S_1 גדול פי 3 מהשטח S_2 . מצא את a .



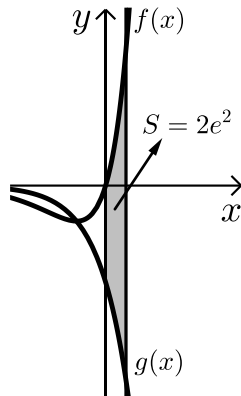
- 16** נתונה הפונקציה: $f(x) = e^{2x-1} - 2ex - 2$. הנקודה A היא נקודת המינימום של הפונקציה. א. מצא את שיעורי הנקודה A. מחברים את הנקודה A עם ראשית הצירים. ב. כתוב את משוואת הישר המחבר את הנקודה A עם הראשית. ג. חשב את השטח הכלוא בין גרף הפונקציה, הישר וציר ה- x , אם ידוע כי גרף הפונקציה חותך את ציר ה- x בנקודה שבה $x = 1.7$.



- 17** נתונה הפונקציה: $f(x) = \frac{e^x + e^{ax}}{4}$. ידוע כי הפונקציה עוברת דרך הנקודה: $(1, \frac{e^3 + 1}{4e^2})$. א. מצא את a וכתוב את הפונקציה. ב. באיור שלפניך מתואר גרף הפונקציה $f(x)$ והישר: $y = 0.1x$. חשב את השטח המוגבל בין גרף הפונקציה, הישר, ציר y והאנך: $x = 2$.



- 18** באיור שלפניך מתוארים הגרפים של שלוש פונקציות: I. $f(x) = 2^x$. II. $g(x) = 4^x$. III. $h(x) = 2^{4-2x}$. א. קבע איזה גרף מתאר כל פונקציה. ב. מצא את שיעורי הנקודות A, B ו-C (נקודות החיתוך שבין הגרפים). ג. חשב את השטח המסומן באיור.



19 ענה על הסעיפים הבאים:

א. גזור את הפונקציה הבאה: $y = e^x(x-1)$.

ב. באיור שלפניך מתוארים הגרפים של

הפונקציות: $f(x) = xe^x$, $g(x) = -e^x$.

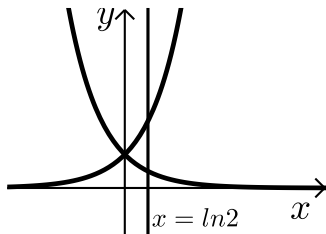
מעבירים ישר $x = a$ ($a > 0$), החותך את הגרפים

של שתי הפונקציות ויוצר את השטח המתואר

הכלוא בין הגרפים של שניהם, ציר ה- y והישר.

ידוע כי שטח זה שווה ל- $2e^2$. מצא את a .

חישובי נפחים:



20 נתונות הפונקציות: $f(x) = e^x$, $g(x) = e^{-x}$.

השטח הכלוא בין הפונקציות והישר: $x = \ln 2$

מסתובב סביב ציר ה- x .

חשב את נפח גוף הסיבוב שנוצר.

תשובות סופיות:

- (1) א. $5e^x - \frac{e^{3x}}{3} - e^{-x} + x + c$ ב. $\frac{3^x}{\ln 3} + \frac{5^{2x}}{2\ln 5} + c$
- ג. $3e^{2x-\frac{1}{2}} + c$ ד. $\frac{1}{2}e^{2x} + 2x - \frac{1}{2}e^{-2x} + c$
- (2) א. $e^x + x + c$ ב. $\frac{3e^{2x}}{2} - 2e^x + 2x + c$
- (3) א. $\frac{1}{4}e^{4x} - e^{-x} + c$ ב. $\frac{1}{2}e^{2x+2} + c$
- ג. $\frac{0.4^x}{\ln 0.4} + \frac{3.2^x}{\ln 3.2} + \frac{200^x}{\ln 200} + c$ ד. $8\sqrt{e^x} - \frac{3}{4}e^{-\frac{4x}{3}} + c$
- (4) א. $2\sqrt{e^x+3} + c$ ב. $\frac{1}{e^x-3x} + c$ ג. $\frac{1}{2}e^{x^2} + c$
- (5) $f(x) = 2e^x + e^{-x} - 1.25$
- (6) $f(x) = \frac{1}{2}e^{2x} + e^x - 2x - 1$
- (7) $f(x) = 2e^{x^3} + \frac{1}{x} + 1$
- (8) $S = 1\frac{1}{3}$ יח"ש
- (9) $S = 10.72$ יח"ש
- (10) $S = 18.41$ יח"ש
- (11) $S = 3\frac{1}{3}$ יח"ש
- (12) $S = 0.192$ יח"ש
- (13) $b = 2$
- (14) $a = \ln 2$
- (15) $S = 4.744$ יח"ש
- (16) א. $A(1, -e-2)$ ב. $y = -(e+2)x$ ג. $S = 4.744$ יח"ש
- (17) א. $a = -2$ ב. $f(x) = \frac{e^x + e^{-2x}}{4}$ ג. $S = 1.03$ יח"ש
- (18) א. $A(1, 4)$, $B\left(1\frac{1}{3}, 2.52\right)$, $C(0, 1)$ ב. $a = 2$
- (19) א. $y' = xe^x$
- (20) $1\frac{1}{8}$ יח"ש

פונקציה לוגריתמית:

סיכום כללי:

אינטגרלים מיידיים של פונקציות לוגריתמיות:

אינטגרל יסודי	אינטגרל של פונקציה מורכבת
$\int \frac{1}{x} dx = \ln x + c$	$\int \frac{1}{ax+b} dx = \frac{1}{a} \ln ax+b + c$

שאלות:

אינטגרל כללי:

(1) חשב את האינטגרלים הבאים:

$$\int \left(\frac{3}{x} + \frac{2}{x+1} - \frac{4}{3x-1} \right) dx \quad \text{א.} \quad \int \frac{x^2+3x-4}{x} dx \quad \text{ב.} \quad \int \frac{x+3}{x^2-9} dx \quad \text{ג.}$$

(2) חשב את האינטגרלים הבאים:

$$\int \frac{x^2+3x+5}{x+1} dx \quad \text{א.} \quad \int \frac{x^3-x^2+5x-6}{x-2} dx \quad \text{ב.} \quad \int \frac{x^4+3}{x+1} dx \quad \text{ג.}$$

(3) חשב את האינטגרלים הבאים:

$$\int \frac{2x}{x^2-3} dx \quad \text{א.} \quad \int \frac{x-1}{x^2-2x} dx \quad \text{ב.} \quad \int \frac{e^x}{e^x+5} dx \quad \text{ג.} \\ \int \frac{e^x - e^{-x}}{e^x + e^{-x}} dx \quad \text{ד.} \quad \int \frac{\cos x}{\sin x} dx \quad \text{ה.}$$

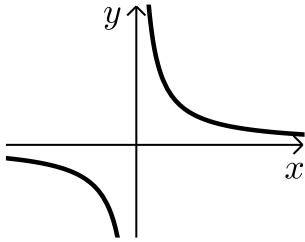
אינטגרל מסוים:

(4) נתונה נגזרת של פונקציה: $f'(x) = 2x - \frac{1}{x-4}$.

מצא את הפונקציה אם ידוע שהיא עוברת בנקודה (5, 28).

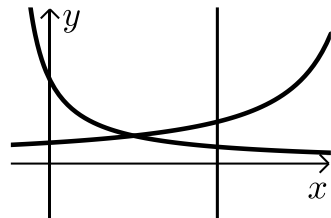
- (5) נתונה נגזרת שנייה של פונקציה: $f''(x) = 6x - \frac{1}{x^2}$. מצא את הפונקציה אם ידוע שהיא עוברת בנקודה $(1, -2)$ וששיפועה בנקודה זו הוא 3.

חישובי שטחים:



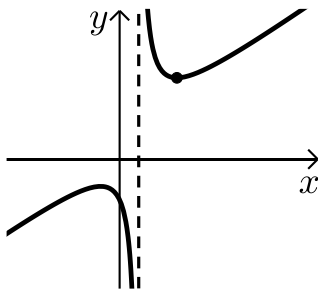
- (6) נתונה הפונקציה: $f(x) = \frac{1}{x}$.

חשב את גודל השטח הכלוא בין הפונקציה, הישרים $x = -1$ ו- $x = -4$ וציר ה- x . ניתן להשאיר \ln בתשובה.



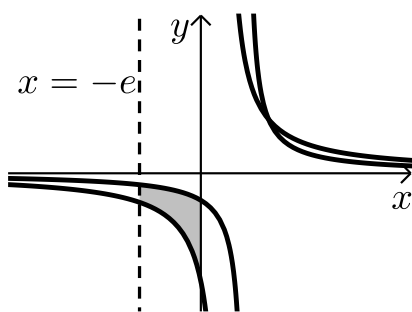
- (7) נתונות הפונקציות: $f(x) = \frac{2}{x+1}$, $f(x) = \frac{4}{8-x}$.

חשב את גודל השטח הכלוא בין הפונקציות, הישר $x = 4$ והצירים.



- (8) נתונה הפונקציה: $f(x) = \frac{x^2 + 3}{x - 1}$.

חשב את גודל השטח הכלוא בין גרף הפונקציה, המשיק לפונקציה בנקודה שבה $x = 2$ ואנך לציר ה- x העובר בנקודת המינימום של הפונקציה. אפשר להשאיר ביטוי עם \ln בתשובה.



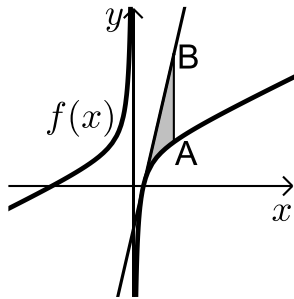
- (9) באיור שלפניך נתונות הפונקציות: $f(x) = \frac{a}{x-1}$

ו- $g(x) = \frac{a-1}{x-2}$ בתחום: $x < 0$.

ידוע כי הגרפים של הפונקציות נחתכים בנקודה שבה $x = 3$.

א. מצא את a וכתוב את שתי הפונקציות.

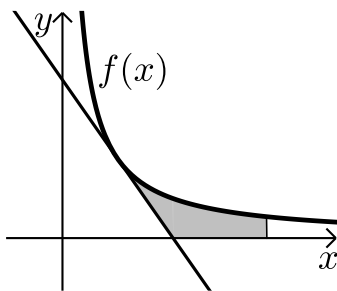
ב. חשב את השטח המוגבל ע"י הגרפים של שתי הפונקציות, ציר ה- y והישר $x = -e$.



10 נתונה הפונקציה: $f(x) = 7 + ax + \frac{b}{x}$.

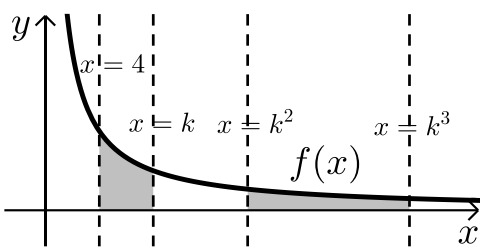
ידוע כי משוואת המשיק לגרף הפונקציה
בנקודת החיתוך שלה עם ציר ה- x היא: $y = 18x - 9$.
א. מצא את a ו- b וכתוב את הפונקציה.
מעבירים ישר המקביל לציר ה- y שחותך את גרף
הפונקציה בנקודה A ואת משוואת המשיק בנקודה B.
אורך הקטע AB הוא 18.

- ב. מצא את משוואת הישר הנ"ל אם ידוע כי הנקודה A
נמצאת מימין לנקודת החיתוך של גרף הפונקציה עם ציר ה- x .
ג. חשב את השטח המוגבל בין גרף הפונקציה, המשיק והישר.



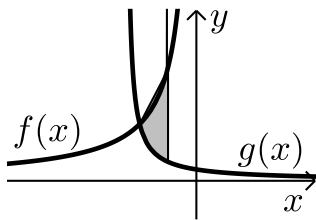
11 הנגזרת של הפונקציה $f(x)$ היא: $f'(x) = -\frac{4}{x^2}$.

משוואת המשיק לגרף הפונקציה בנקודה
שבה: $x = 2$ היא: $y = 4 - x$.
א. מצא את הפונקציה $f(x)$.
ב. באיור שלפניך מתוארים גרף הפונקציה $f(x)$
והמשיק בתחום: $x > 0$.
חשב את השטח המוגבל בין גרף הפונקציה, המשיק,
ציר ה- x והישר $x = e^2$.



12 באיור שלפניך נתונה הפונקציה: $f(x) = \frac{2}{x}$.

בתחום: $x > 0$. מעבירים את הישרים:
 $x = 4$, $x = k$, $x = k^2$, $x = k^3$
כמתואר $x > 4$.
א. הבע באמצעות k את השטחים S_1 ו- S_2 .
ב. הראה כי ההפרש: $S_2 - S_1$ אינו תלוי ב- k וחשב את ערכו.
ג. נתון כי השטח S_2 גדול פי 3 מהשטח S_1 . מצא את k .



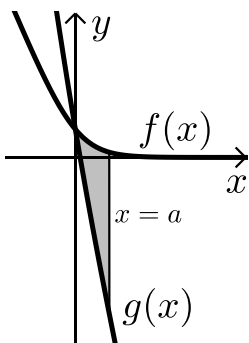
13 נתונות הפונקציות: $f(x) = -\frac{4}{x}$ ו- $g(x) = \frac{k}{2x+5}$.

גרף הפונקציה $g(x)$ חותך את ציר ה- y בנקודה שבה $y = 0.4$.

א. מצא את הפונקציה $g(x)$.

ב. מצא את נקודת החיתוך של שני הגרפים.

ג. חשב את השטח המוגבל ע"י שני הגרפים והישר $x = -1$.



14 באיור מתוארים הגרפים של הפונקציות:

$f(x) = \ln(e^{-x} + 1)$ ו- $g(x) = \ln(e^{-2x} + e^{-3x})$

בתחום: $(x \geq 0)$.

א. הראה כי הגרפים נחתכים על ציר ה- y .

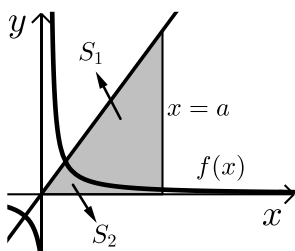
ב. מעבירים ישר $x = a$, $(a > 1)$ המאונך

לציר ה- x אשר חותך את הגרפים של שתי

הפונקציות ויוצר את השטח S (ראה איור).

מצא את ערכו של a עבורו מתקיים: $S = 4$.

15 באיור שלפניך מתוארים הגרפים של הפונקציה: $f(x) = \frac{2}{3x-1}$ והישר: $y = x$.



א. מצא את נקודת החיתוך של הפונקציות הנמצאת ברביע הראשון.

מעבירים אנך לציר ה- x $x = a$ הנמצא מימין

לנקודת החיתוך שמצאת בסעיף הקודם.

האנך חותך את הגרפים ויוצר את השטחים S_1 ו- S_2

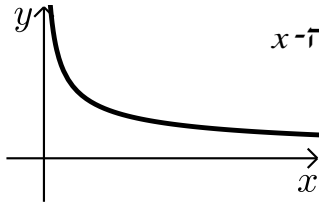
המתוארים האיור.

ב. מצא את הערך של a עבורו השטח S_2 יהיה שווה ל- $\frac{1}{2} + \frac{2}{3} \ln 7$.

ג. עבור ערך ה- a שמצאת בסעיף הקודם חשב את יחס השטחים: $\frac{S_1}{S_2}$.

חישובי נפחים:

$$(16) \text{ נתונה הפונקציה: } f(x) = \frac{1}{\sqrt{x}}$$



השטח הכלוא בין הפונקציה, הישרים $x=1$ ו- $x=3$ וציר ה- x מסתובב סביב ציר ה- x . מצא את נפח גוף הסיבוב שנוצר באופן זה. אפשר להשאיר \ln בתשובה.

$$(17) \text{ נתונה הפונקציה: } f(x) = \frac{e^x}{\sqrt{e^{2x}+1}}$$

השטח הכלוא בין הפונקציה, הצירים והישר $x = \ln \sqrt{3}$ מסתובב סביב ציר ה- x . חשב את נפח גוף הסיבוב שנוצר.

$$(18) \text{ נתונה הפונקציה: } f(x) = \sqrt{x} + \frac{2}{\sqrt{x}}$$

השטח הכלוא בין הפונקציה, הישרים $x=a$ ו- $x=a+3$ ($a > 0$), וציר ה- x מסתובב סביב ציר ה- x . חשב את נפח גוף הסיבוב המינימלי שנוצר באופן זה.

תשובות סופיות:

$$\ln|x-3|+c \quad \lambda \quad \frac{x^2}{2}+3x-4\ln|x|+c \quad \text{ב.} \quad 3\ln|x|+2\ln|x+1|-\frac{4\ln|3x-1|}{3}+c \quad \text{א.} \quad (1)$$

$$\frac{x^3}{3}+\frac{x^2}{2}+7x+8\ln|x-2|+c \quad \text{ב.} \quad \frac{x^2}{2}+2x+3\ln|x+1|+c \quad \text{א.} \quad (2)$$

$$\frac{x^4}{4}-\frac{x^3}{3}+\frac{x^2}{2}-x+4\ln|x+1|+c \quad \lambda$$

$$\ln|e^x+5|+c \quad \lambda \quad \frac{1}{2}\ln|x^2-2x|+c \quad \text{ב.} \quad \ln|x^2-3|+c \quad \text{א.} \quad (3)$$

$$\ln|\sin x|+c \quad \text{ה.} \quad \ln|e^x+e^{-x}|+c \quad \text{ז.}$$

$$f(x)=x^2-\ln|x-4|+3 \quad (4)$$

$$f(x)=x^3+\ln|x|-x-2 \quad (5)$$

$$S = \text{יח"ש} \ln 4 \quad (6)$$

$$S = \text{יח"ש} 2.17 \quad (7)$$

$$S = \text{יח"ש} 4\ln 2 - 2 \quad (8)$$

$$S = \text{יח"ש} 1.76 \quad \text{ב.} \quad f(x) = \frac{2}{x-1}, \quad g(x) = \frac{1}{x-2}, \quad a=2 \quad \text{א.} \quad (9)$$

$$x=2 \quad \text{ב.} \quad f(x) = 7+2x-\frac{4}{x}, \quad a=2, \quad b=-4 \quad \text{א.} \quad (10)$$

$$S = 6 + \ln 256 \approx \text{יח"ש} 11.54 \quad \lambda$$

$$S = \text{יח"ש} 6 - 4\ln 2 \quad \text{ב.} \quad f(x) = \frac{4}{x} \quad \text{א.} \quad (11)$$

$$k=8 \quad \lambda \quad S_2 - S_1 = \ln 16 \quad \text{ב.} \quad S_1 = 2\ln k - \ln 16, \quad S_2 = 2\ln k \quad \text{א.} \quad (12)$$

$$S = \text{יח"ש} \ln 5 \frac{1}{3} \approx 1.674 \quad \lambda \quad (-2, 2) \quad \text{ב.} \quad g(x) = \frac{2}{2x+5} \quad \text{א.} \quad (13)$$

$$a=2 \quad \text{ב.} \quad (14)$$

$$\frac{S_1}{S_2} = 5.955 \quad \lambda \quad a=5 \quad \text{ב.} \quad (1, 1) \quad \text{א.} \quad (15)$$

$$V = \text{יח"נ} \pi \ln 3 \quad (16)$$

$$V = \text{יח"נ} \frac{\pi}{2} \ln 2 \quad (17)$$

$$V = \text{יח"נ} \pi \left(19 \frac{1}{2} + 4\ln 4 \right) \quad (18)$$

פונקצית חזקה עם מעריך רציונאלי:

סיכום כללי:

אינטגרלים מיידיים של פונקצית חזקה עם מעריך רציונאלי:

אינטגרל יסודי	אינטגרל של פונקציה מורכבת
$\int \sqrt[n]{x^m} dx = \int x^{\frac{m}{n}} dx = \frac{x^{\frac{m}{n}+1}}{\frac{m}{n}+1} + c$	$\int \sqrt[n]{(ax+b)^m} dx = \int (ax+b)^{\frac{m}{n}} dx = \frac{(ax+b)^{\frac{m}{n}+1}}{a \cdot \left(\frac{m}{n}+1\right)} + c$

תנאי לקיום האינטגרציה: $\frac{m}{n} \neq -1$.

שאלות:

אינטגרל של פונקצית חזקה:

(1) חשב את האינטגרלים הבאים:

$$\begin{array}{lll} \int (x \cdot \sqrt[5]{x}) dx & \text{ג.} & \int (4x - 2\sqrt[4]{x}) dx & \text{ב.} & \int \sqrt[3]{x} dx & \text{א.} \\ \int \frac{x^3 - 3x + 5}{\sqrt{x}} dx & \text{ו.} & \int \frac{x+4}{\sqrt[4]{x}} dx & \text{ה.} & \int \frac{3}{\sqrt[3]{x}} dx & \text{ד.} \\ \int \frac{3}{\sqrt[8]{7x+12}} dx & \text{ט.} & \int \sqrt[4]{5-x} dx & \text{ח.} & \int \sqrt[3]{2x-3} dx & \text{ז.} \\ & & & & \int \frac{7}{\sqrt[5]{14-2x}} dx & \text{י.} \end{array}$$

(2) חשב את ערכי האינטגרלים הבאים:

$$\begin{array}{lll} \int_{-10}^5 \frac{2}{\sqrt[4]{6-x}} dx & \text{ג.} & \int_3^{16} (\sqrt[4]{5x+1}) dx & \text{ב.} & \int_0^8 (x + \sqrt[5]{4x}) dx & \text{א.} \end{array}$$

אינטגרל מסוים:

(3) נתונה הנגזרת הבאה: $f'(x) = 2x - \sqrt[3]{4x}$

ידוע כי הפונקציה עוברת בנקודה $(2, 3)$.
מצא את הפונקציה.

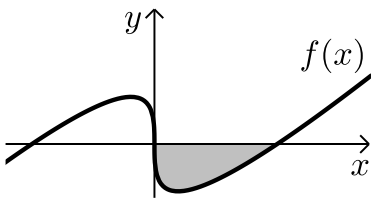
(4) נתונה הנגזרת הבאה: $f'(x) = \sqrt[3]{5x+7}$

ידוע כי הפונקציה חותכת את ציר ה- x בנקודה שבה $x = 4$.
מצא את הפונקציה.

(5) נתונה הנגזרת הבאה: $f'(x) = \frac{10}{\sqrt[3]{x+1}} + (x-1)^2$

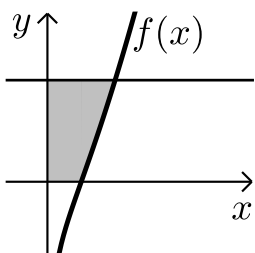
ידוע כי הפונקציה חותכת את ציר ה- y בנקודה שבה $y = -6$.
מצא את הפונקציה.

חישובי שטחים:



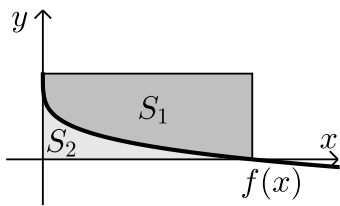
(6) באיור שלפניך מופיע גרף הפונקציה: $f(x) = x - 4\sqrt[3]{x}$

- א. מצא את נקודות החיתוך של הפונקציה עם ציר ה- x .
ב. חשב את השטח הנוצר בין גרף הפונקציה והצירים.



(7) באיור שלפניך מצויר גרף הפונקציה: $f(x) = \frac{x^2 - 4}{\sqrt{x}}$

- א. מהו תחום ההגדרה של הפונקציה?
ב. מצא את נקודת החיתוך של הפונקציה עם ציר ה- x .
ג. מעבירים אנך לציר ה- y מהנקודה $(4, 6)$.
חשב את השטח הנוצר בין גרף הפונקציה, האנך והצירים.



8) באיור שלפניך מתואר גרף הפונקציה: $f(x) = 2 - \sqrt[4]{x}$.

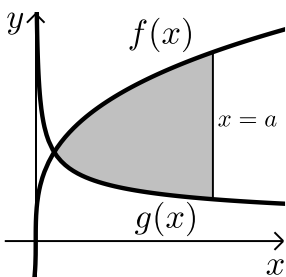
מעבירים אנכים לצירים מנקודות החיתוך של

גרף הפונקציה עם הצירים כך שנוצר מלבן.

מסמנים את השטח שבין גרף הפונקציה והצירים:

ב- S_1 ואת השטח שבין גרף הפונקציה והאנכים ב- S_2 .

מצא את היחס: $\frac{S_1}{S_2}$.



9) באיור שלפניך נתונים הגרפים של הפונקציות

$$\text{הבאות: } f(x) = 4\sqrt[3]{x}, \quad g(x) = \frac{1}{\sqrt[3]{x}}$$

א. מצא את נקודת החיתוך של הגרפים בתחום: $x > 0$.

ב. מעבירים אנך לציר ה- x , $x = a$, (a פרמטר).

ידוע כי השטח שנוצר בין שני הגרפים מנקודת

החיתוך שלהם ועד לאנך הוא: $42 \frac{3}{16}$ סמ"ר.

מצא את a .

10) נתונה הפונקציה: $f(x) = \sqrt[4]{5x+6} - ax$, (a פרמטר).

ידוע כי גרף הפונקציה חותך את ציר ה- x בנקודה שבה $x = 2$.

א. מצא את הפרמטר a וכתוב את הפונקציה.

ב. מהו תחום ההגדרה של הפונקציה?

ג. מצא את נקודת קיצון הקצה של הפונקציה.

ד. מצא את משוואת המשיק לגרף הפונקציה העובר

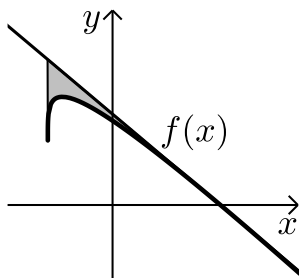
דרך נקודת החיתוך שלה עם ציר ה- x .

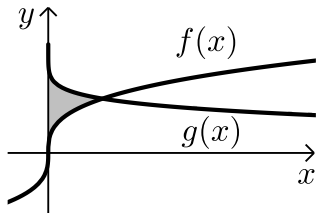
ה. באיור שלפניך מתואר גרף הפונקציה $f(x)$

והמשיק שמצאת בסעיף הקודם. מורידים אנך

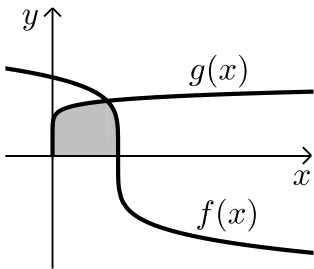
מהמשיק אל נקודת קיצון הקצה של הפונקציה שמצאת בסעיף ג'.

חשב את השטח הנוצר בין גרף הפונקציה $f(x)$ והמשיק.

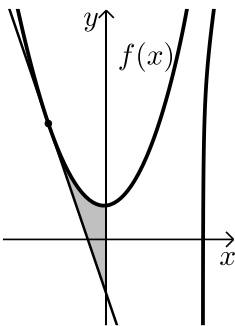




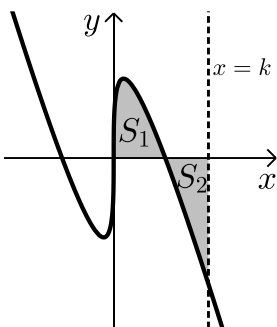
- 11** באיור שלפניך נתונים הגרפים של הפונקציות: $f(x) = \sqrt[3]{x}$, $g(x) = 2 - \sqrt{x}$.
 א. מצא את נקודת החיתוך של הגרפים.
 ב. חשב את השטח הכלוא בין שני הגרפים וציר ה- y .



- 12** הנגזרת של הפונקציה $f(x)$ היא: $f'(x) = -\frac{1}{\sqrt[5]{(6-5x)^4}}$.
 ידוע כי הפונקציה חותכת את ציר ה- x בנקודה שבה: $x = 1.2$.
 א. מצא את הפונקציה $f(x)$.
 ב. חשב את השטח הכלוא בין גרף הפונקציה $f(x)$, גרף הפונקציה $g(x) = \sqrt[10]{x}$ וציר ה- x .



- 13** נתונה הפונקציה: $f(x) = \frac{3}{\sqrt[3]{5-x}} + \frac{1}{2}x^2$.
 א. מצא את משוואת המשיק לגרף הפונקציה בנקודה שבה $x = -3$.
 ב. חשב את השטח הכלוא בין גרף הפונקציה $f(x)$, המשיק וציר ה- y .



- 14** נתונה הפונקציה: $f(x) = \sqrt[3]{x} - 4x$.
 א. מהו תחום ההגדרה של הפונקציה?
 ב. מצא את נקודות החיתוך של הפונקציה עם ציר ה- x .
 ג. באיור שלפניך מתואר גרף הפונקציה ברביע הראשון. השטח הכלוא בין גרף הפונקציה וציר ה- x יסומן ב- S_1 . מעבירים ישר $x = k$ אשר יוצר את השטח S_2 כמתואר. מצא את k אם ידוע כי: $S_1 = S_2$.

תשובות סופיות:

- (1) א. $0.75\sqrt[3]{x^4} + c$ ב. $2x^2 - 1.6\sqrt[4]{x^5} + c$ ג. $\frac{5}{11}\sqrt[5]{x^{11}} + c$
- ד. $4.5\sqrt[3]{x^2} + c$ ה. $\frac{4}{7}\sqrt[4]{x^7} + \frac{16}{3}\sqrt[4]{x^3} + c$ ו. $\frac{2}{7}\sqrt{x^7} - 2\sqrt{x^3} + 10\sqrt{x} + c$
- ז. $\frac{3}{8}\sqrt[3]{(2x-3)^4} + c$ ח. $-0.8\sqrt[4]{(5-x)^5} + c$ ט. $\frac{24}{49}\sqrt[8]{(7x+12)^7} + c$
- י. $-\frac{35}{8}\sqrt[5]{(14-2x)^4} + c$
- (2) א. $45\frac{1}{3}$ ב. 33.76 ג. $18\frac{2}{3}$
- (3) $f(x) = x^2 - \frac{3}{16}\sqrt[3]{(4x)^4} + 2$
- (4) $f(x) = \frac{3}{20}\sqrt[3]{(5x+7)^4} - 12.15$
- (5) $f(x) = 12.5\sqrt[5]{(x+1)^4} + \frac{1}{3}(x-1)^3 - 18\frac{1}{6}$
- (6) א. $(0,0) ; (8,0)$ ב. 16 יח"ש = S
- (7) א. $x > 0$ ב. $(2,0)$ ג. 18.149 יח"ש = S
- (8) $\frac{S_1}{S_2} = 4$
- (9) א. $\left(\frac{1}{8}, 2\right)$ ב. $a = 8$
- (10) א. $f(x) = \sqrt[4]{5x+6} - x, a = 1$ ב. $x \geq -1.2$ ג. $(-1.2, 1.2)$
- ד. $y = -\frac{27}{32}x + \frac{27}{16}$ ה. 0.48 יח"ש = S
- (11) א. $(1,1)$ ב. $\frac{11}{28}$ יח"ש = S
- (12) א. $f(x) = (6-5x)^{\frac{1}{5}}$ ב. $1\frac{5}{66}$ יח"ש = S

$$y = -2\frac{15}{16}x - \frac{45}{16} \quad \text{א. (13)} \quad \text{ב. } S = 4.56 \text{ יח"ש}$$

$$k = \left(\frac{3}{8}\right)^{1.5} = 0.2296.. \quad \text{ג. } (0,0), \left(\frac{1}{8}, 0\right), \left(-\frac{1}{8}, 0\right) \quad \text{ב.} \quad \text{א. כל } x \quad \text{(14)}$$