

# מימון ציבורי ורווחה



$$\{\sqrt{x}\}^2$$



## תוכן העניינים

1. גבול אפשרויות הצריכה - קווי תקציב..... 1
2. העדפה נגלית ומדדי פאש ולספייר..... 2
3. מונופול ..... (ללא ספר) 3
4. שיווי משקל של מונופול מפלה ..... (ללא ספר) 4
5. אוליגופול - תחרות בין מעטים ..... (ללא ספר) 5
6. יעילות הצריכה ורווחה ..... (ללא ספר) 6

# מימון ציבורי ורווחה

פרק 1 - גבול אפשרויות הצריכה - קווי תקציב

תוכן העניינים

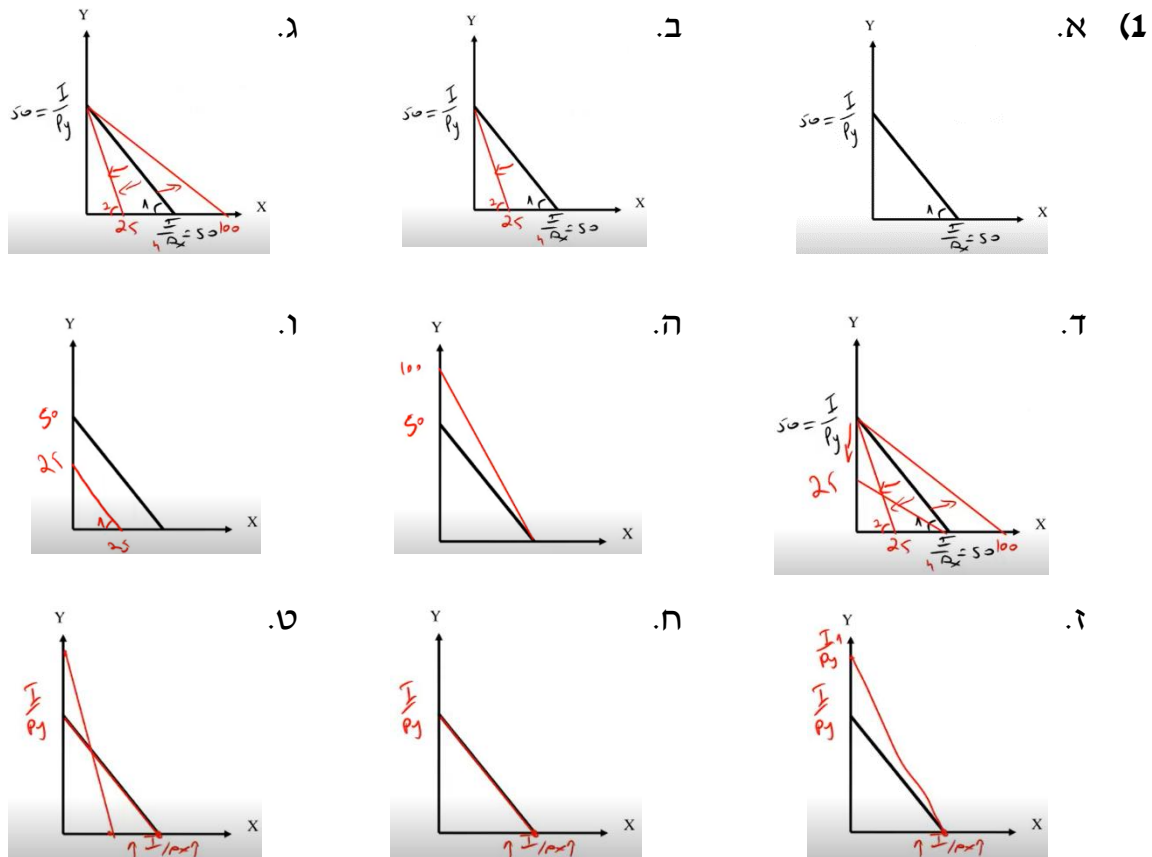
1. כללי..... 1

## גבול אפשרויות הצריכה – קווי תקציב:

### שאלות:

- 1) נתון צרכן עם הכנסה של 100 ₪. מחיר מוצר X – 2 ₪ ומחיר מוצר Y – 2 ₪. הציגו את קו התקציב בכל אחד מהסעיפים הבאים:
- א. נתוני המוצא:  $P_y = 2$ ,  $P_x = 2$ ,  $I = 100$ .
- ב. מחיר מוצר X בלבד התייקר פי 2.
- ג. מחיר מוצר X בלבד הוזל פי 2.
- ד. מחיר מוצר Y בלבד התייקר פי 2.
- ה. מחיר מוצר Y בלבד הוזל פי 2.
- ו. מחיר שני המוצרים התייקר פי 2.
- ז. מחיר מוצר X התייקר פי 2 וההכנסה גדלה פי 2.
- ח. מחיר שני המוצרים התייקר פי 2 וההכנסה גדלה פי 2.
- ט. מחיר מוצר X התייקר פי 2 ומחיר מוצר Y הוזל פי 2.

### תשובות סופיות:



# מימון ציבורי ורווחה

פרק 2 - העדפה נגלית ומדדי פאש ולספייר

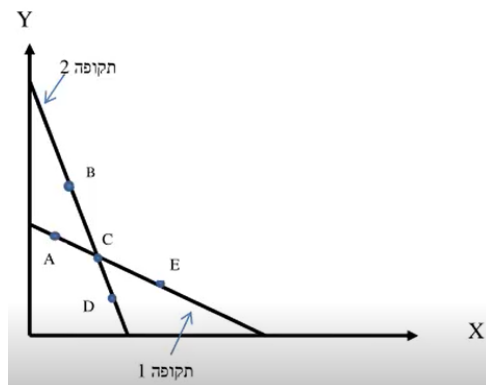
תוכן העניינים

1. כללי ..... 2

## העדפה נגלית ומדדי פאש ולספייר:

### שאלות:

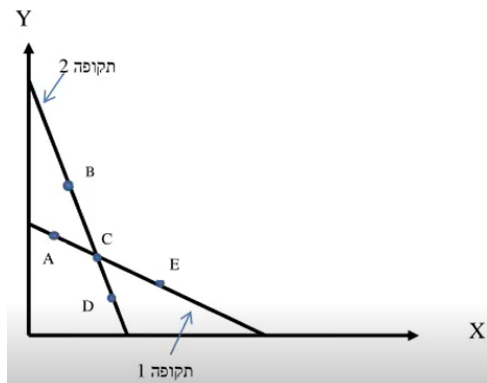
- (1) צרכן רציונלי צורך שני מוצרים  $X, Y$  בשתי תקופות. לפניך קווי התקציב שלו בשתי התקופות וסלי צריכה אפשריים. ידוע לצרכן עקומות אדישות קמורות ורציפות. כמו כן, טעמי הצרכן לא השתנו בין התקופות.



להלן מספר טענות:

- אם בתקופה הראשונה, הצרכן צרך את  $A$ , ובתקופה השנייה, הצרכן צרך את  $B$ , אזי לא ניתן לדעת מה קרה למצבו.
- אם בתקופה הראשונה, הצרכן צרך את  $A$ , ובתקופה השנייה, הצרכן צרך את  $D$ , אזי מצבו לא השתנה.
- אם בתקופה הראשונה, הצרכן צרך את  $E$ , ובתקופה השנייה, הצרכן צרך את  $B$ , אזי מצבו השתפר.
- אם בתקופה הראשונה, הצרכן צרך את  $C$ , ובתקופה השנייה, הצרכן צרך את  $B$ , אזי מצבו השתפר.

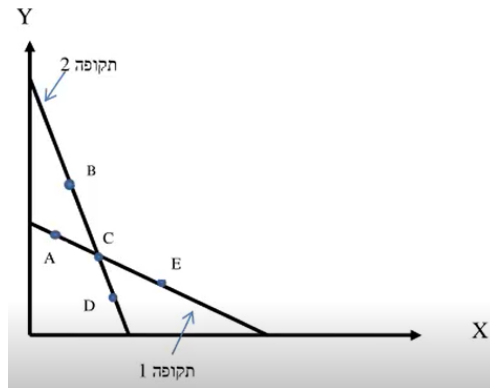
- (2) צרכן רציונלי צורך שני מוצרים  $X, Y$  בשתי תקופות. לפניך קווי התקציב שלו בשתי התקופות וסלי צריכה אפשריים. ידוע לצרכן עקומות אדישות קמורות ורציפות.



להלן מספר טענות :

- א. אם בתקופה הראשונה, הצרכן צרך את סל C, ובתקופה השנייה, הצרכן עדיין צרך את סל C, אזי טעמיו לא השתנו בהכרח.
- ב. אם בתקופה הראשונה, הצרכן צרך את סל A, ייתכן שימשיך לצרוך את אותו סל בתקופה השנייה.
- ג. אם בתקופה הראשונה, הצרכן צרך את סל E, ובתקופה השנייה, הצרכן צרך את סל D, אזי מצבו השתפר.
- ד. אם בתקופה הראשונה, הצרכן צרך את סל C, ובתקופה השנייה, הצרכן צרך את סל D, אזי מצבו השתפר.

- 3) צרכן רציונלי צורך שני מוצרים X, Y בשתי תקופות. לפינך קווי התקציב שלו בשתי התקופות וסלי צריכה אפשריים. ידוע לצרכן עקומות אדישות קמורות ורציפות.



- א. אם בתקופה הראשונה, הצרכן צרך את סל A, ובתקופה השנייה, הצרכן צרך את סל B, אזי :  
מדד כמויות לספייר  
(סמנו : גדול מאחת / קטן מאחת / שווה לאחת).  
מדד כמויות פאש  
(סמנו : גדול מאחת / קטן מאחת / שווה לאחת).
- ב. אם בתקופה הראשונה, הצרכן צרך את סל E, ובתקופה השנייה, הצרכן צרך את סל B, אזי :  
מדד כמויות לספייר  
(סמנו : גדול מאחת / קטן מאחת / שווה לאחת).  
מדד כמויות פאש  
(סמנו : גדול מאחת / קטן מאחת / שווה לאחת).
- ג. אם בתקופה הראשונה, הצרכן צרך את סל E, ובתקופה השנייה, הצרכן צרך את סל D, אזי :  
מדד כמויות לספייר  
(סמנו : גדול מאחת / קטן מאחת / שווה לאחת).  
מדד כמויות פאש  
(סמנו : גדול מאחת / קטן מאחת / שווה לאחת).

**תשובות סופיות:**

- (1) ד'.
- (2) א'.
- (3) א. ספייר : גדול מאחת, פאש : גדול מאחת.  
ב. ספייר : גדול מאחת, פאש : גדול מאחת.  
ג. ספייר : קטן מאחת, פאש : קטן מאחת.

# מימון ציבורי ורווחה

פרק 3 - מונופול

תוכן העניינים

1. כללי ..... (ללא ספר)

# מימון ציבורי ורווחה

פרק 4 - שיווי משקל של מונופול מפלה

תוכן העניינים

1. כללי ..... (ללא ספר)

# מימון ציבורי ורווחה

פרק 5 - אוליגופול - תחרות בין מעטים

תוכן העניינים

1. כללי ..... (ללא ספר)

# מימון ציבורי ורווחה

פרק 6 - יעילות הצריכה ורווחה

תוכן העניינים

1. כללי ..... (ללא ספר)