

# מבוא לשיטות כמותיות בניהול



$$\{\sqrt{x}\}^2$$



## תוכן העניינים

1	מבוא לאגברה	1
47	משוואות אלגבריות	47
64	אי שוויונים אלגבריים	64
73	חוקי החזקות והשורשים	73
(ללא ספר)	משוואות ואי-שוויונים מעריכיים	5
(ללא ספר)	חוקי הלוגריתמים, משוואות ואי-שוויונים לוגריתמיים	6
83	טריגונומטריה במשולש ישר זווית	83
88	זהויות טריגונומטריות	88
109	משוואות טריגונומטריות ואי שוויונים טריגונומטריים	109
(ללא ספר)	חשבון דיפרנציאלי - הפונקציה הממשית - תכונות בסיסיות ופונקציות נפוצות	10
130	חשבון דיפרנציאלי - גבול של פונקציה	130
140	חשבון דיפרנציאלי - נגזרות ומשיקים	140
155	חשבון דיפרנציאלי - חקירת פונקצית פולינום	155
168	חשבון דיפרנציאלי - חקירת פונקצית מנה ושורש	168

# מבוא לשיטות כמותיות בניהול

## פרק 1 - מבוא לאלגברה

### תוכן העניינים

1	1. מספרים מכוונים
5	2. חזקות ושורשים עם מספרים מכוונים
7	3. סדר פעולות חשבון עם מספרים מכוונים
8	4. אחוזים
14	5. כפל וחילוק שברים
16	6. חיבור וחסור שברים
20	7. בעיות יסודיות באחוזים
22	8. חזרה על תבניות מספר
24	9. כינוס איברים
26	10. פישוט ביטויים על ידי פתיחת סוגריים
29	11. פישוט ביטויים באמצעות נוסחאות הכפל המקוצר
31	12. פירוק לגורמים של ביטויים אלגברים
34	13. פירוק הטרינום
36	14. שברים אלגברים
40	15. כפל וחילוק של שברים אלגברים
42	16. חיבור וחסור של שברים אלגברים
46	17. שברים כפולים

## מספרים מכוונים:

### סיכום כללי:

מספרים מכוונים הם מספרים שיכולים לקבל סימן חיובי או שלילי, כגון:

- בקניון גדול ישנן קומות 1, 2, 3, 4, וכן חניונים הממוקמים בקומות 1-, 2-, ו-3-.
- גובה פני הים מוגדר להיות 0 מטרים. העיר חיפה נמצאת כ-103 מטרים מעל פני הים בעוד שים המלח נמצא בגובה 426- מטרים.

### כללים:

- כאשר מחברים שני מספרים בעלי סימנים זהים, מחברים את המספרים עצמם והסימן נשאר.
- כאשר מחברים שני מספרים בעלי סימנים מנוגדים, מחסירים את המספרים זה מזה (הקטן מהגדול) וסימן התוצאה כסימן המספר הגדול מביניהם.
- כפל וחילוק יתבצע בשני חלקים:
  - ביצוע הפעולה על המספרים עצמם.
  - קביעת הסימן של התוצאה באופן הבא:
    - כפל או חילוק של שני מספרים בעלי אותו סימן - התוצאה תהיה חיובית.
    - כפל או חילוק של שני מספרים שונים סימן - התוצאה תהיה שלילית.

### הערה:

אם יש רצף של מכפלות (או חילוקים), סימן התוצאה תלוי במספר הפעמים שבהם מופיע סימן שלילי (-). אם הסימן מופיע מספר זוגי של פעמים התוצאה חיובית, ואם הוא מופיע מספר אי-זוגי של פעמים אזי התוצאה שלילית.

## שאלות:

1) סמנו את המספרים הבאים על ציר המספרים בהתאמה:

$$-3\frac{1}{2}, 4, 1\frac{1}{3}, -5, -\frac{1}{2}, 2, 0, \frac{1}{2}, -2$$



2) חשבו את ערכי הביטויים הבאים:

ב.  $-3-2$

א.  $3+2$

ד.  $-3+2$

ג.  $3-2$

ו.  $7+10$

ה.  $-1-4$

ח.  $-7+3$

ז.  $-6+5$

3) חשבו את ערכי הביטויים הבאים:

ב.  $5-8-12+17$

א.  $5+7-23+1$

ד.  $-4-11+2+9$

ג.  $3-14+2+6$

ו.  $-7-13+5-3$

ה.  $6-21+3-7$

4) חשב את ערכי הביטויים הבאים:

ב.  $4 \cdot (-7)$

א.  $4 \cdot 9$

ד.  $(-5) \cdot (-3)$

ג.  $(-6) \cdot (-5)$

ו.  $(-8) \cdot 5$

ה.  $(-2) \cdot 8$

ח.  $2 \cdot 3 \cdot 3$

ז.  $(-2) \cdot (-3) \cdot (-3)$

י.  $(-2) \cdot (-3) \cdot 3$

ט.  $(-2) \cdot 3 \cdot (-3)$

יב.  $(-2) \cdot (-3) \cdot (-3) \cdot (-2)$

יא.  $2 \cdot 3 \cdot (-3)$

יד.  $1 \cdot (-2) \cdot (-4) \cdot 2$

יג.  $(-1) \cdot (-2) \cdot (-4) \cdot 2$

5) מהו הסימן של תוצאת המכפלה בכל מקרה :

א.  $(-2) \cdot (-4) \cdot (-3) \cdot (-10) \cdot (-6) \cdot (-5)$

ב.  $(-1) \cdot 2 \cdot 4 \cdot (-3) \cdot (-10) \cdot 6 \cdot (-5)$

ג.  $(-1) \cdot 2 \cdot 4 \cdot (-3) \cdot (-10) \cdot (-6) \cdot (-5)$

ד.  $(-1) \cdot 2 \cdot 4 \cdot (-3) \cdot (-10) \cdot 6 \cdot 5$

6) חשבו את ערכי הביטויים הבאים :

ב.  $(-30) : 3$

א.  $(-25) : (-5)$

ד.  $(-32) : (-4)$

ג.  $40 : (-10)$

ו.  $4 : (-16)$

ה.  $(-6) : 18$

7) חשבו את ערכי הביטויים הבאים :

ב.  $\frac{42}{-6}$

א.  $\frac{-60}{12}$

ד.  $\frac{-12}{-3}$

ג.  $\frac{32}{-4}$

8) מה התוצאה של כל אחת מהפעולות הבאות :

ב.  $(-2) \cdot 0$

א.  $0 : 5$

ד.  $6 : 0$

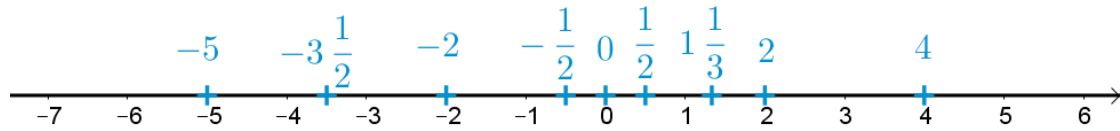
ג.  $0 \cdot (-3) \cdot 4$

ו.  $0 - 4$

ה.  $0 + 4$

## תשובות סופיות:

(1) להלן מערכת הצירים:



- (2) א. 5    ב. -5    ג. 1    ד. -1    ה. -5
- ו. 17    ז. -1    ח. -4
- (3) א. -10    ב. 2    ג. -3    ד. -4    ה. -19    ו. -18
- (4) א. 36    ב. -28    ג. 30    ד. 15    ה. -16
- ו. -40    ז. -18    ח. 18    ט. 18    י. 18
- יא. -18    יב. 36    יג. -16    יד. 16
- (5) א. +    ב. +    ג. -    ד. -
- (6) א. 5    ב. -10    ג. -4    ד. 8    ה.  $-\frac{1}{3}$     ו.  $-\frac{1}{4}$
- (7) א. -5    ב. -7    ג. -8    ד. 4
- (8) א. 0    ב. 0    ג. 0    ד. לא מוגדר    ה. 4    ו. -4

## חזקות ושורשים עם מספרים מכוונים:

### סיכום כללי:

#### הגדרה:

פעולת החזקה היא צורה מקוצרת שמייצגת פעולת כפל של אותו מספר בעצמו מספר פעמים. סימון החזקה הוא באופן הבא:

$$a^n = \underbrace{a \cdot a \cdot a \cdot \dots \cdot a}_n$$

כאשר  $a$  נקרא הבסיס ו- $n$  נקראת החזקה.

#### הערות:

- כאשר הבסיס חיובי, התוצאה תמיד תהיה חיובית ללא קשר האם החזקה היא זוגית או אי-זוגית.
- כאשר הבסיס שלילי, התוצאה תהיה חיובית אם החזקה היא זוגית ושלילית אם החזקה היא אי-זוגית.

#### הגדרה:

פעולת השורש היא הפוכה לפעולת החזקה והיא מאפשרת למצוא את בסיס החזקה. סימון השורש הוא באופן הבא:

$$\sqrt[n]{a}$$

כאשר  $a$  נקרא הבסיס ו- $n$  נקרא סדר השורש.

#### הערות:

- שורש למספר זוגי יכול להיות מסדר זוגי או אי-זוגי.
- שורש למספר שלילי יכול להיות מסדר אי-זוגי בלבד.

## שאלות:

(1) חשב את ערכי הביטויים הבאים:

- |              |               |
|--------------|---------------|
| א. $3^2$     | ב. $3^3$      |
| ג. $(-3)^3$  | ד. $(-2)^3$   |
| ה. $4^3$     | ו. $3^4$      |
| ז. $(-5)^3$  | ח. $10^4$     |
| ט. $-(-3)^4$ | י. $-5^4$     |
| יא. $-4^3$   | יב. $-(-2)^6$ |

(2) חשב את ערכי הביטויים הבאים:

- |                    |                      |
|--------------------|----------------------|
| א. $\sqrt[3]{-27}$ | ב. $\sqrt[4]{625}$   |
| ג. $\sqrt[4]{-16}$ | ד. $\sqrt[5]{-32}$   |
| ה. $-\sqrt[4]{81}$ | ו. $-\sqrt[3]{1000}$ |

## תשובות סופיות:

- |           |          |              |         |         |         |
|-----------|----------|--------------|---------|---------|---------|
| (1) א. 9  | ב. 27    | ג. -27       | ד. -8   | ה. 64   | ו. 81   |
| ז. -125   | ח. 10000 | ט. -81       | י. -625 | יא. -64 | יב. -64 |
| (2) א. -3 | ב. 5     | ג. לא מוגדר. | ד. -2   | ה. -3   | ו. -10  |

## סדר פעולות חשבון עם מספרים מכוונים:

סיכום כללי:

סדר פעולות חשבון:

- פעולות כפל וחילוק קודמות לפעולות חיבור וחסור.
- פעולות חזקה ושורש קודמות לפעולות כפל וחילוק.
- סוגריים קודמים לכל.

שאלות:

1) חשב את ערכי הביטויים הבאים:

א. $\sqrt{81} + 3 \cdot 2^3 - 40 : 8$	ב. $(-3)^2 : 9 - 2 \cdot (-4^2)$
ג. $\sqrt{144} - 20 : 4 + 3 \cdot (-2)^2$	ד. $3 + 4 \cdot [-3 + 4 \cdot (-2)] + \sqrt{10 + 6}$
ה. $(-3)^4 : (-9) - 5 \cdot (-2)^3$	ו. $-\sqrt{9} + 5^2 : (-4 - 1) - 24 : 12 \cdot 3$
ז. $-2^5 : (-8) + 4^2 - 3 \cdot 5$	ח. $\sqrt[3]{-27} + 4 \cdot 3^2 - 2 \cdot 3^3$
ט. $[6 \cdot (-1)^4 - 10 \cdot (-1)^3] \cdot (-1)^5$	י. $(8 - \sqrt[3]{64}) \cdot (2 \cdot (-4) - \sqrt{243})$

יא.  $\frac{3^2 \cdot (8 - 2 \cdot 3)^3}{(5^2 \cdot 3 - 72) \cdot (-4)} + 2 \cdot \{15 - 20 : (4 + 3 \cdot 2)\}$

תשובות סופיות:

1) א. 28	ב. 33	ג. 19	ד. -37	ה. 31	ו. -14
ז. 5	ח. -21	ט. -16	י. -44	יא. 20	

## אחוזים:

### סיכום כללי:

#### הגדרה כללית - שבר:

השבר הוא חלק מתוך השלם. מקובל לסמן שבר באמצעות קו שבר המפריד בין המונה (החלק העליון) למכנה (החלק התחתון) באופן הבא:

$$\frac{\text{מונה}}{\text{מכנה}}$$

#### ישנם שלושה סוגים אפשריים של שברים:

- שבר פשוט – בו המונה קטן מהמכנה (ולכן תמיד יהיה קטן מ-1).
- שבר מדומה – בו המונה גדול מהמכנה (יהיה גדול בערכו מ-1).
- שבר מעורב – המכיל שילוב של מספר שלם ושבר כלשהו.

#### שבר עשרוני:

שבר שהמכנה שלו הוא מספר המהווה כפולות של 10 כגון: 10, 100, 1000 ... שבר עשרוני מיוצג ע"י נקודה עשרונית אשר מבדילה בין החלק שלם לחלק השברי באופן הבא:

$$\underbrace{XX}_{\text{שברים שלמים}} . \underbrace{YYY}$$

כדי להמיר שבר פשוט לשבר עשרוני המכנה צריך להיות בכפולות של 10.

#### הגדרה - אחוז:

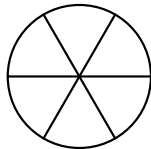
השבר  $\frac{1}{100}$  מוגדר להיות אחוז אחד ומסומן באופן הבא: 1%.

באופן זה השבר  $\frac{45}{100}$  יכתב: 45%, והשבר  $\frac{145}{100}$  יכתב: 145%.

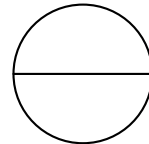
## שאלות:

12) צבע את החלקים המתאימים בכל עיגול:

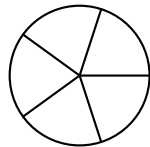
ב. צבע  $\frac{1}{6}$  מהעיגול



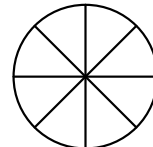
א. צבע  $\frac{1}{2}$  מהעיגול



ד. צבע  $\frac{2}{5}$  מהעיגול



ג. צבע  $\frac{3}{8}$  מהעיגול



13) כתוב את השבר המתאים לחלקים הצבועים בכל אחד מהמקרים הבאים:

ב. שבר:



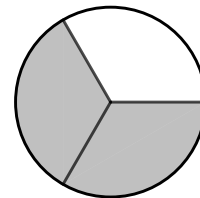
ד. שבר:



א. שבר:



ג. שבר:



14) הרחב את השברים הבאים :

א. השבר  $\frac{1}{2}$  לפי מכנה 4, לפי מכנה 18, לפי מכנה 40.

ב. השבר  $\frac{3}{5}$  לפי מכנה 10, לפי מכנה 25, לפי מכנה 60.

ג. השבר  $\frac{5}{8}$  לפי מכנה 16, לפי מכנה 32, לפי מכנה 88.

15) צמצם את השברים הבאים ככל הניתן :

א. $\frac{25}{30}$	ב. $\frac{10}{30}$	ג. $\frac{6}{24}$	ד. $\frac{4}{20}$
ה. $\frac{35}{56}$	ו. $\frac{24}{42}$	ז. $\frac{36}{48}$	ח. $\frac{33}{121}$

16) המר את השברים המדומים הבאים לשברים מעורבים :

א. $-\frac{20}{3}$	ב. $\frac{19}{4}$	ג. $\frac{12}{5}$	ד. $\frac{22}{5}$
ה. $-\frac{34}{6}$	ו. $-\frac{50}{7}$	ז. $\frac{47}{8}$	ח. $\frac{60}{9}$

17) המר את השברים המעורבים הבאים לשברים מדומים :

א. $1\frac{2}{3}$	ב. $3\frac{5}{6}$	ג. $4\frac{1}{2}$	ד. $6\frac{1}{4}$
ה. $11\frac{3}{4}$	ו. $-2\frac{5}{8}$	ז. $-6\frac{2}{7}$	ח. $12\frac{7}{9}$

18) קבע איזה שבר גדול יותר בכל אחד מהמקרים הבאים :

א. $\frac{4}{10}$ או $\frac{3}{10}$	ב. $\frac{7}{6}$ או $\frac{7}{8}$
ג. $\frac{5}{6}$ או $\frac{2}{3}$	ד. $\frac{7}{12}$ או $\frac{5}{18}$

**(19)** המר את השברים העשרוניים הבאים לשברים פשוטים מצומצמים או מעורבים :

א. 0.7	ב. 0.07	ג. 0.007	ד. 0.34
ה. 0.304	ו. 0.65	ז. 1.2	ח. 1.02
ט. 1.42	י. 3.5	יא. 6.03	יב. 5.125

**(20)** המר את השברים הבאים לשברים עשרוניים :

א. $\frac{3}{10}$	ב. $\frac{3}{100}$	ג. $\frac{3}{1000}$	ד. $\frac{23}{1000}$
ה. $\frac{1}{2}$	ו. $\frac{3}{4}$	ז. $\frac{2}{5}$	ח. $\frac{4}{25}$
ט. $\frac{7}{50}$	י. $\frac{3}{20}$	יא. $\frac{7}{8}$	יב. $\frac{9}{16}$
יג. $9\frac{1}{10}$	יד. $3\frac{1}{5}$	טו. $4\frac{7}{8}$	טז. $-4\frac{1}{16}$

**(21)** כתוב את השברים הבאים בצורתם העשרונית (היעזר במחשבון וכתוב עד 3 ספרות אחרי הנקודה העשרונית) :

א. $\frac{2}{3}$	ב. $\frac{5}{6}$	ג. $\frac{3}{7}$	ד. $\frac{2}{11}$
------------------	------------------	------------------	-------------------

**(22)** המר מאחוזים לשברים פשוטים :

א. 25%	ב. 32%	ג. 64%	ד. 80%
ה. 120%	ו. 5%	ז. 300%	ח. 150%

**(23)** המר משברים פשוטים לאחוזים :

א. $\frac{3}{4}$	ב. $\frac{1}{8}$	ג. $\frac{4}{5}$	ד. $\frac{7}{20}$
ה. $\frac{11}{40}$	ו. $\frac{70}{125}$	ז. $\frac{5}{6}$	ח. $\frac{4}{9}$

## תשובות סופיות:

(12) תשובה מודגמת בסרטון.

- (13) א.  $\frac{1}{5}$     ב.  $\frac{1}{6}$     ג.  $\frac{2}{3}$     ד.  $\frac{3}{4}$
- (14) א.  $\frac{4}{8}, \frac{18}{36}, \frac{40}{80}$     ב.  $\frac{30}{50}, \frac{75}{125}, \frac{180}{300}$     ג.  $\frac{80}{128}, \frac{160}{256}, \frac{440}{700}$
- (15) א.  $\frac{5}{6}$     ב.  $\frac{1}{3}$     ג.  $\frac{1}{4}$     ד.  $\frac{1}{5}$     ה.  $\frac{5}{8}$     ו.  $\frac{4}{7}$
- (16) א.  $-6\frac{2}{3}$     ב.  $4\frac{3}{4}$     ג.  $2\frac{2}{5}$     ד.  $4\frac{2}{5}$     ה.  $-5\frac{4}{6}$     ו.  $-7\frac{1}{7}$
- (17) א.  $\frac{5}{3}$     ב.  $\frac{23}{6}$     ג.  $\frac{9}{2}$     ד.  $\frac{25}{4}$     ה.  $\frac{47}{4}$     ו.  $-\frac{21}{8}$
- (18) א.  $\frac{4}{10}$     ב.  $\frac{7}{6}$     ג.  $\frac{5}{6}$     ד.  $\frac{7}{12}$
- (19) א.  $\frac{7}{10}$     ב.  $\frac{7}{100}$     ג.  $\frac{7}{1000}$     ד.  $\frac{17}{50}$     ה.  $\frac{38}{125}$     ו.  $\frac{13}{20}$
- (20) א. 0.3    ב. 0.03    ג. 0.003    ד. 0.023    ה. 0.5    ו. 0.75
- א. 0.4    ב. 0.16    ג. 0.14    ד. 0.15    ה. 0.875    ו. -4.0625
- א. 0.5625    ב. 9.1    ג. 3.2    ד. 4.875    ה. 0.18
- (21) א.  $0.\bar{6}$     ב.  $0.8\bar{3}$     ג. 0.428    ד.  $0.1\bar{8}$
- (22) א.  $\frac{1}{4}$     ב.  $\frac{8}{25}$     ג.  $\frac{16}{25}$     ד.  $\frac{4}{5}$     ה.  $1\frac{1}{5}$     ו.  $\frac{1}{20}$
- א. 3    ב.  $1\frac{1}{2}$

23 א. 75%    ב. 12.5%    ג. 80%    ד. 35%    ה. 27.5%    ו. 56%

ז. 83.333%    ח. 44.444%

## כפל וחילוק שברים:

### סיכום כללי:

- כשכופלים שני שברים יש לכפול מונה במונה ומכנה במכנה.
  - במידה ומדובר במספר שלם הכופל שבר, יש לכפול אותו במונה.
  - במידה ומדובר בשברים מעורבים, יש להפוך אותם תחילה לשברים מדומים ורק אז לבצע את פעולת הכפל.
- כדי לחלק שברים, יש לכפול את השבר הראשון בהופכי של השבר השני.
  - הופכי של שבר מסוים מתקבל ע"י החלפת המונה במכנה.

### שאלות:

(1) חשב את ערכי הביטויים הבאים:

$\frac{2}{9} \cdot \frac{8}{10}$ ג.	$\frac{2}{7} \cdot \frac{5}{6}$ ב.	$\frac{3}{5} \cdot \frac{3}{4}$ א.
$\frac{12}{25} \cdot 5$ ו.	$6 \cdot \frac{2}{3}$ ה.	$3 \cdot \frac{4}{5}$ ד.
$3\frac{3}{7} \cdot 2\frac{2}{5}$ ט.	$3\frac{1}{2} \cdot 4\frac{2}{5}$ ח.	$1\frac{3}{5} \cdot 2\frac{1}{4}$ ז.
$\frac{4^3}{5}$ יב.	$\frac{4}{5^3}$ יא.	$\left(\frac{4}{5}\right)^3$ י.

(2) חשב את ערכי הביטויים הבאים:

$\frac{3}{25} : \frac{7}{10}$ ג.	$\frac{3}{4} : \frac{1}{2}$ ב.	$\frac{2}{5} : \frac{4}{9}$ א.
$\frac{5}{6} : 3$ ו.	$10 : \frac{2}{3}$ ה.	$8 : \frac{2}{9}$ ד.
$2\frac{2}{5} : 1\frac{3}{15}$ ט.	$3\frac{3}{4} : 5\frac{5}{8}$ ח.	$\frac{2}{5} : 5$ ז.

## תשובות סופיות:

- (1) א.  $\frac{9}{20}$     ב.  $\frac{5}{21}$     ג.  $\frac{8}{45}$     ד.  $2\frac{2}{5}$     ה. 4    ו.  $2\frac{2}{5}$
- ז.  $3\frac{3}{5}$     ח.  $15\frac{2}{5}$     ט.  $8\frac{8}{35}$     י.  $\frac{64}{125}$     יא.  $\frac{4}{125}$     יב.  $12\frac{4}{5}$
- (2) א.  $\frac{9}{10}$     ב.  $1\frac{1}{2}$     ג.  $\frac{6}{35}$     ד. 36    ה. 15    ו.  $\frac{5}{18}$
- ז.  $\frac{2}{25}$     ח.  $\frac{2}{3}$     ט. 2

## חיבור וחסור שברים:

### סיכום כללי:

#### כפולה משותפת מינימלית:

בהינתן זוג מספרים  $a$  ו- $b$ , המספר הקטן ביותר אשר תוצאת חלוקתו במספרים הנ"ל מניבה מספר שלם נקרא הכפולה המינימלית שלהם.

#### הערות:

- כפולה מינימלית יכולה להיות גם עבור יותר משני מספרים.
- הכפולה המינימלית תהיה המכנה המשותף בעת פעולות חיבור וחסור של שברים.

#### כללי החיבור והחסור של שברים:

- חיבור וחסור של שברים בעלי אותו המכנה מתבצע על המספרים שבמונה בלבד כאשר המכנה נשאר כפי שהוא.  
דוגמא:  $\frac{2}{7} - \frac{3}{7} = \frac{2-3}{7} = \frac{-1}{7}$ ,  $\frac{2}{7} + \frac{3}{7} = \frac{2+3}{7} = \frac{5}{7}$
- חיבור וחסור של שברים בעלי מכנים שונים מתבצע ע"י פעולת מכנה משותף.  
דוגמא:  $\frac{1}{4} - \frac{5}{6} = \frac{3}{12} - \frac{10}{12} = \frac{3-10}{12} = \frac{-7}{12}$ ,  $\frac{2}{5} + \frac{1}{3} = \frac{6}{15} + \frac{5}{15} = \frac{6+5}{15} = \frac{11}{15}$
- חיבור של שבר עם מספר שלם יתבצע באופן ישיר.  
דוגמא:  $3 + \frac{1}{4} = 3\frac{1}{4}$   
חסור של שבר ממספר שלם יתבצע ע"י הוצאת שלמים מהשבר.  
דוגמא:  $3 - \frac{1}{4} = 2\frac{4}{4} - \frac{1}{4} = 2\frac{3}{4}$   
דרך נוספת היא ע"י העברת המספר השלם לשבר מדומה:  $3 - \frac{1}{4} = \frac{12}{4} - \frac{1}{4} = \frac{11}{4} = 2\frac{3}{4}$
- חיבור וחסור של שברים מעורבים יתבצע ע"י העברתם לשברים מדומים תחילה.  
דוגמא:  $3\frac{2}{5} + 2\frac{1}{6} = \frac{17}{5} + \frac{13}{6} = \frac{17 \cdot 6}{30} + \frac{13 \cdot 5}{30} = \frac{102+65}{30} = \frac{167}{30} = 5\frac{17}{30}$   
ניתן גם לפצל ולבצע את פעולת החיבור (או החיסור) של המספרים השלמים תחילה,

ולאחר מכן לבצע את הפעולה עבור השברים.

$$\text{דוגמא: } 2\frac{3}{4} - 5\frac{1}{3} = (2-5) + \left(\frac{3}{4} - \frac{1}{3}\right) = -3 + \left(\frac{9}{12} - \frac{4}{12}\right) = -3 + \frac{5}{12} = -2\frac{7}{12}$$

### שאלות:

(1) מצא את הכפולה המשותפת המינימלית של המספרים הבאים:

- |           |          |              |             |
|-----------|----------|--------------|-------------|
| א. 2 ו-3  | ב. 2 ו-4 | ג. 3 ו-5     | ד. 6 ו-10   |
| ה. 4 ו-10 | ו. 4 ו-6 | ז. 3, 5 ו-10 | ח. 2, 3 ו-8 |

(2) חשב את ערכי הביטויים הבאים:

- |  |   |
|--|---|
| א. $\frac{1}{5} + \frac{3}{5}$               | ב. $\frac{5}{9} + \frac{2}{9}$                  |
| ג. $\frac{4}{13} + \frac{9}{13}$             | ד. $\frac{7}{8} + \frac{7}{8}$                  |
| ה. $\frac{7}{8} - \frac{3}{8}$               | ו. $\frac{8}{9} - \frac{7}{9}$                  |
| ז. $\frac{2}{12} - \frac{5}{12}$             | ח. $\frac{2}{5} - \frac{6}{5}$                  |
| ט. $\frac{2}{8} + \frac{5}{8} + \frac{6}{8}$ | י. $\frac{7}{15} + \frac{8}{15} - \frac{6}{15}$ |

(3) חשב את ערכי הביטויים הבאים:

- |  |   |
|--|---|
| א. $\frac{1}{2} + \frac{4}{3}$               | ב. $\frac{3}{5} + \frac{1}{10}$               |
| ג. $\frac{4}{6} - \frac{1}{12}$              | ד. $\frac{3}{6} - \frac{5}{8}$                |
| ה. $\frac{5}{4} + \frac{7}{2} + \frac{2}{8}$ | ו. $\frac{7}{3} + \frac{6}{5} + \frac{3}{10}$ |
| ז. $\frac{4}{7} - \frac{1}{6} + \frac{1}{2}$ | ח. $\frac{1}{4} + \frac{2}{8} - \frac{3}{5}$  |

(4) חשב את ערכי הביטויים הבאים:

א.	$2 + \frac{5}{6}$
ב.	$2 - \frac{5}{6}$
ג.	$2\frac{1}{4} + \frac{5}{6}$
ד.	$2\frac{1}{4} - \frac{5}{6}$
ה.	$3\frac{2}{3} + 4\frac{1}{4}$
ו.	$5\frac{7}{8} - 6\frac{1}{2}$
ז.	$2 + \frac{5}{6} - \frac{1}{9}$
ח.	$\frac{3}{4} - 1\frac{1}{5} + \frac{8}{20}$

(5) חשב את ערכי הביטויים הבאים:

א.	$\frac{1}{2} \cdot \left(1 - \frac{3}{4}\right) + 2\frac{1}{3}$
ב.	$\frac{3}{14} : \frac{2}{7} + \frac{1}{3} \cdot 2\frac{1}{4} - \frac{2}{5}$
ג.	$\frac{5}{11} \cdot 2\frac{3}{4} - 6 : \frac{2}{5}$
ד.	$2\frac{4}{5} : \frac{9}{10} \cdot \frac{6}{7} + \frac{1}{6}$
ה.	$\frac{5}{6} : \frac{3}{4} + \frac{2}{3} \cdot 3\frac{1}{4}$

## תשובות סופיות:

- (1) א. 6    ב. 4    ג. 15    ד. 30    ה. 20    ו. 12  
 ז. 30    ח. 24
- (2) א.  $\frac{4}{5}$     ב.  $\frac{7}{9}$     ג. 1    ד.  $1\frac{3}{4}$     ה.  $\frac{1}{2}$     ו.  $\frac{1}{9}$   
 ז.  $-\frac{1}{4}$     ח.  $-\frac{4}{5}$     ט.  $1\frac{5}{8}$     י.  $\frac{3}{5}$
- (3) א.  $1\frac{5}{6}$     ב.  $\frac{7}{10}$     ג.  $\frac{7}{12}$     ד.  $-\frac{1}{8}$     ה. 5    ו.  $3\frac{5}{6}$   
 ז.  $\frac{19}{21}$     ח.  $-\frac{1}{10}$
- (4) א.  $2\frac{5}{6}$     ב.  $1\frac{1}{6}$     ג.  $3\frac{1}{12}$     ד.  $1\frac{5}{12}$     ה.  $7\frac{11}{12}$     ו.  $-\frac{5}{8}$   
 ז.  $2\frac{13}{18}$     ח.  $-\frac{1}{20}$
- (5) א.  $2\frac{11}{24}$     ב.  $1\frac{1}{10}$     ג.  $-13\frac{3}{4}$     ד.  $2\frac{5}{6}$     ה.  $3\frac{5}{18}$

## בעיות יסודיות באחוזים:

### סיכום כללי:

נוסחה לביצוע חישובים עם אחוזים:

$$\text{תמורת האחוז} = \text{שלם} \cdot \frac{\text{אחוז}}{100}$$

למשל, בהינתן גודל שלם 120, אשר יש לחשב כמה הם 40 אחוזים ממנו, נקבל לפי

$$\text{הנוסחה: } 48 = 120 \cdot \frac{40}{100}, \text{ כלומר: תמורת האחוז 40 מהגודל 120 היא 48.}$$

### שאלות:

- (1) בכיתה 30 תלמידים. 60% מתוכם בנות.
  - א. כמה בנות בכיתה?
  - ב. כמה בנים בכיתה?
- (2) בכיתה 28 בנות המהוות 70% מכלל התלמידים בכיתה.
  - א. כמה תלמידים בכיתה?
  - ב. כמה בנים בכיתה?
- (3) מחיר בגדים הוא 300 ₪. בסוף העונה הוא נמכר ב-20% הנחה.
  - א. מהו מחירו בסוף העונה?
  - ב. מה גודל ההנחה?
- (4) מחיר ההשקה של בושם מסוים הוא 500 ₪. לאחר מכן מועלה מחירו ב-8%.
  - א. מה מחירו הסופי?
  - ב. מה גודל ההתייקרות?
- (5) מחיר ליטר דלק הוא 5 ₪ לליטר. בחנוכה מוזל מחירו ב-7%. בפסח מועלה מחירו ב-7%. מה מחירו בסוף השנה?

6) מוצר מסויים מתייקר בסוכות ב-12%. בפורים מוזל המוצר ב-12%. מחירו בסוף השנה הוא 394.24 ₪. מה מחירו בתחילת השנה?

7) ענה על השאלות הבאות:

- א. באולם קולנוע 200 צופים, מתוכם 176 בנים. מה אחוז הבנים בקהל?  
 ב. בכיתה 30 תלמידים, מתוכם 18 בנות. מה אחוז הבנות בכיתה?  
 ג. מחיר מוצר התייקר מ-80 ₪ ל-120 ₪. בכמה אחוזים התייקר המוצר?  
 ד. מחיר מוצר הוזל מ-120 ₪ ל-80 ₪. בכמה אחוזים הוזל המוצר?  
 ה. מחיר מוצר התייקר מ-150 ₪ ל-200 ₪. בכמה אחוזים התייקר המוצר?  
 ו. מחיר מוצר מוזל הוזל מ-200 ₪ ל-150 ₪. בכמה אחוזים הוזל המוצר?

### תשובות סופיות:

- 1) א. 18 בנות. ב. 12 בנים.  
 2) א. 40 תלמידים. ב. 12 בנים.  
 3) א. 240 ₪. ב. 60 ₪.  
 4) א. 540 ₪. ב. 40 ₪.  
 5) א. 4.9755 ₪.  
 6) א. 400 ₪.  
 7) א. 88%. ב. 60%. ג. 50%. ד. 33.33%. ה. 33.33%. ו. 25%.

## חזרה על תבניות מספר:

### סיכום כללי:

משתנה הוא סמל המתאר כמות או גודל כלשהם אשר אינם ידועים ועשויים להשתנות.

תבנית מספר היא ביטוי אלגברי אשר מכיל משתנה (או משתנים).

ניתן להציב במשתנים ערכים מספריים שונים ולקבל תוצאות שונות עבור תבנית המספר עצמה.

במתמטיקה, תפקידה של תבנית המספר הוא להביע גודל מסוים אשר לערכו יש משמעויות שונות. דוגמא לכך היא: קנייה של  $x$  פריטים, אשר כל אחד עולה 3 שקלים, יניבו תבנית מספר של  $3 \cdot x$  אשר מייצגת את הסכום הכולל של הפריטים.

### שאלות:

(1) חשב את ערכי הביטויים האלגבריים הבאים עבור ה- $x$  הנתון:

א.  $2x+5$  כאשר  $x=3$       ב.  $x^2+3x$  כאשר  $x=2$

ג.  $-x^2+2x+3$  כאשר  $x=5$       ד.  $-x^2-9x+5$  כאשר  $x=5$

ה.  $x^3+1$  כאשר  $x=-2$       ו.  $4-x^3$  כאשר  $x=-1$

ז.  $(x+1)(2-x)$  כאשר  $x=4$       ח.  $x^2(3x-4)$  כאשר  $x=3$

(2) חשב את ערכי הביטויים האלגבריים הבאים עבור ה- $x$  הנתון:

א.  $27x^5-2x^3+x$  כאשר  $x=\frac{1}{3}$       ב.  $\frac{1}{3}x^2+\frac{1}{2}x+6$  כאשר  $x=-\frac{2}{3}$

(3) הצב את הערכים המספריים במקום הפרמטרים וחשב את ערך תבנית המספר:

א.  $a^2+2ab+b^2$  עבור:  $a=3, b=-5$

ב.  $(x-3)^2+3x^2b$  עבור:  $x=5, b=-1$

ג.  $-x^3-2xy+y^4$  עבור:  $x=-2, y=-1$

ד.  $\frac{(a-2c)^4}{a}-a^2$  עבור:  $a=2, c=-2$

ה.  $\frac{4a^2-3b}{c}$  עבור:  $a=-1, b=2, c=-4$

ו.  $\sqrt{c-3a}$  עבור:  $c=13, a=-1$  ועבור:  $c=82, a=\frac{1}{3}$

ז.  $\frac{p^3+2\sqrt{q+1}}{m}$  עבור:  $p=-5, q=48, m=3$

## תשובות סופיות:

- (1) א. 11      ב. 10      ג. -12      ד. -65      ה. -7      ו. 5  
 ז. -10      ח. 45
- (2) א.  $\frac{10}{27}$       ב.  $5\frac{22}{27}$
- (3) א. 4      ב. -71      ג. 5      ד. 644      ה.  $\frac{1}{2}$   
 ו. הצבה ראשונה: 4, הצבה שניה: 9  
 ז. -37

## כינוס איברים:

### סיכום כללי:

תבניות אלגבריות יכולות להכיל איברים רבים ולכן נרצה לכנס אותם על מנת לפשט את התבנית. כדי לכנס איברים ניקח את כל קבוצת האיברים מאותו הסוג ונחבר את המקדמים שלהם. דוגמא:  $3x + 6x - 5x = (3 + 6 - 5)x = 4x$ .  
 איברים שונים נבדלים זה מזה בערך התבנית האלגברית שלהם.  
 כך:  $3x$  שונה מ- $4y$  ושונה מ- $2xy$ . באותו האופן, האיברים  $x$  ו- $x^2$  הם שונים.

### שאלות:

#### (1) כנס איברים דומים:

- |  |   |
|--|---|
| א. $5x + 7x - 4x$  | ב. $9x^2 - 2x^2 - 3x^2 - 2x^2$                |
| ג. $-10xy + 15xy + xy - 2yx$   | ד. $x^2y - 3yx^2 + x^2y$                      |
| ה. $8a^2 + 10a - 5a^2 - 11a + a^2$   | ו. $2x^2 - 3m^2 - x^2 + 3m^2$                 |
| ז. $3xy + y - 30y + 6yx - 7y$  | ח. $mn^2 + 4m^2n + 6n^2m - 10nm^2 + mn^2$     |
| ט. $-6 + x^3 + 4 - 3x^3 + 17x^3 - 17$  | י. $y^2 + x^2 - 5x^2 + 5y^2 + 4x^2 - 6y^2$    |
| יא. $7x^2 - 3x - 4x + 2$   | יב. $5xy + 2x - 3yx - x + 1$                  |
| יג. $3 - x - x^2 + 4x + 5x^2 - 12$   | יד. $x + xy + y - 6yx - 6y - 6x$              |
| טו. $mn + n - 5m + 5nm - 14n + 3m$   | טז. $ab^2 + 6ba^2 - 6b + 16a^2b + 3b - 6b^2a$ |
| יז. $z^3 - 4z^2 + 7 - z^3 - 8 + 8z^2$  | יח. $4x^2z + 6xz^2 - 6 - xz^2 + 12 + 10zx^2$  |
| יט. $2 - x^3 - 3 - 4x^2 + 2x + x^3 + x^2 - 2$  | כ. $x^3 - 3x - 4x^2 + 2x + x^3 + x^2 - 2x^3$  |
| כא. $2a^2b + 3x^2y + 5a^2b + 10x^2y$   | כב. $12x^2y^3 + 13a^2 - 20x^2y^3 + 2a^2$      |
| כג. $2y^2 - 4x^3y^2 - 10y^2 - x^3y^2$  | כד. $-2x^3y + 5x^2 - 4yx^3 - 6x^2$            |
| כה. $2a^2b + 2b + 3a^2 + 5b$   | כו. $5a^2b - 8ab^2 + 20a^2b - 14ab^2$         |
| כז. $-12x^2 + 2y^2 + 3x^2y + 14xy^2 - 5xy^2 - 6y^2 + 2xy + 11x^2 + x^2y - 9xy$               |   |
| כח. $21x^3y^3 + x^2y^2 - 3xy^3 + x^3y - 15x^2y^2 - 7x^3y + 12x^3y^3 - 4xy^3 + 4xy^3 - 6x^3y$ |   |

## תשובות סופיות:

- (1) א.  $8x$       ב.  $2x^2$       ג.  $4xy$
- ד.  $-x^2y$       ה.  $4a^2 - a$       ו.  $x^2$
- ז.  $9xy - 36y$       ח.  $8mn^2 - 6nm^2$       ט.  $15x^3 - 19$
- י.  $-13n - 2m + 6mn$       יא.  $7x^2 - 7x + 2$       יב.  $2xy + x + 1$       יג.  $4x^2 + 3x - 9$
- יד.  $-5x - 5y - 5xy$       יו.  $-5ab^2 + 22a^2b - 3b$       יז.  $4z^2 - 1$       יח.  $14x^2z + 5xz^2 + 6$
- יט.  $-3x^2 + 2x - 3$       כ.  $-3x^2 - x$       כא.  $7a^2b + 13x^2y$
- כב.  $-8x^2y^3 + 15a^2$       כג.  $-8y^2 - 5x^3y^2$       כד.  $-6x^3y - x^2$
- כה.  $2a^2b + 3a^2 + 7b$       כו.  $25a^2b - 22ab^2$
- כז.  $-x^2 - 4y^2 + 4x^2y + 9xy^2 - 7xy$
- כח.  $33x^3y^3 - 14x^2y^2 - 3xy^3 - 12x^3y$

## פישוט ביטויים ע"י פתיחת סוגריים:

### סיכום כללי:

בעת ביצוע כפל בין שני איברים יש לכפול את המקדמים בנפרד ואת האותיות (משתנים) בנפרד.

כלל הפילוג:

$$\bullet a(b+c) = ab+ac$$

$$\bullet (a+b)(c+d) = ac+ad+bc+bd$$

### שאלות:

(1) פשט את הביטויים הבאים:

א. $2x \cdot 3x$	ב. $-4x \cdot (-7x)$	ג. $-2x \cdot (-4x) \cdot (-3)$
ד. $8m^2 \cdot 4m^3$	ה. $3a^3 \cdot (-2a^2)$	ו. $-b \cdot 4b^2 \cdot \frac{b^2}{2}$
ז. $a \cdot 3b$	ח. $4a^2 \cdot 7b^2$	ט. $ab \cdot (-2a^2b)$

(2) פשט את הביטויים הבאים ע"י פתיחת סוגריים:

א. $2(3x-4)$	ב. $2(-3x^2+5x-1)$
ג. $(7x-2)4$	ד. $(1-2x)(-2)$
ה. $a(3a-1)$	ו. $b(b^2-3b+4)$
ז. $2x(5x+3)$	ח. $5x(x^2+2x-3)$
ט. $3t^2(4t-t^2+6)$	י. $\frac{5}{2}(4d^4-3d)d$

3 פשט את הביטויים הבאים :

א.  $5x + (3x - 2) + (-4 - 2x)$       ב.  $7x + (-4x - 5) + 3x + (-1 + 7x)$

ג.  $8 - (2x - 5) - (4x + 2)$       ד.  $-6x - (-3x - 1) - (-7 - 4x) + 1$

ה.  $(3 - 2x^2 + 4)2 + 3(x - x^2) - 6(7 - 5x) + 4x^2$

ו.  $3y^2 - (y + 1 - 2y^2) + 6(5y - 6) - (-y - 4)3 + 5(y^2 + 1) - 7$

4 פשט את הביטויים הבאים :

א.  $(x - 1)(x + 2)$       ב.  $(x + 3)(x - 7)$

ג.  $(3 - x)(x + 4)$       ד.  $(3x + 4)(5x + 1)$

ה.  $3(4x + 1)(2x - 3)$       ו.  $-2(3x - 1)(5 - 2x)$

5 פשט את ערכי הביטויים הבאים :

א.  $(x - 1)(x + 3) + 2(3 - x)$

ב.  $(a + 4)(a - 2) - (a + 5)(a - 3)$

ג.  $(2m - 3)(4m + 3) + 5(2m^2 - 6)$

ד.  $-x^2y^2(x^3y + x^2) + 2xy(2x^3y - x^4y^2)$

## תשובות סופיות:

- (1) א.  $6x^2$     ב.  $28x^2$     ג.  $-24x^2$     ד.  $32m^5$     ה.  $-6a^5$     ו.  $-2b^5$   
 ז.  $3ab$     ח.  $28a^2b^2$     ט.  $-2a^3b^2$
- (2) א.  $6x-8$     ב.  $-6x^2+10x-2$     ג.  $28x-8$     ד.  $-2+4x$   
 ה.  $3a^2-a$     ו.  $b^3-3b^2+4b$     ז.  $10x^2+6x$     ח.  $5x^3+10x^2-15x$   
 ט.  $12t^3-3t^4+18t^2$     י.  $10d^5-7.5d^2$
- (3) א.  $6x-6$     ב.  $13x-6$     ג.  $-6x+11$     ד.  $x+9$     ה.  $-3x^2+33x-28$   
 ו.  $10y^2+32y-27$
- (4) א.  $x^2+x-2$     ב.  $x^2-4x-21$     ג.  $-x^2-x+12$
- ד.  $15x^2+23x+4$     ה.  $24x^2-30x-9$     ו.  $12x^2-34x+10$
- (5) א.  $x^2+3$     ב. 7    ג.  $18m^2-6m-39$     ד.  $-3x^5y^3+3x^4y^2$

## פישוט ביטויים באמצעות נוסחאות הכפל המקוצר:

### סיכום כללי:

- נוסחת ריבוע של סכום/הפרש:  $(a \pm b)^2 = a^2 \pm 2ab + b^2$ .
- נוסחה להפרש ריבועים:  $(a+b)(a-b) = a^2 - b^2$ .

### שאלות:

#### (1) פשט את הביטויים הבאים:

א. $(x+5)^2$	ב. $(x+2)^2$	ג. $(4x+5)^2$
ד. $(6x+2)^2$	ה. $(7x+y)^2$	ו. $(5x+2y)^2$
ז. $(x^2+7)^2$	ח. $(x^2+y^2)^2$	ט. $(x^3+2y^2x)^2$

#### (2) פשט את הביטויים הבאים:

א. $(x-6)^2$	ב. $(x-2)^2$	ג. $(5-x)^2$
ד. $(6x-1)^2$	ה. $\left(3x-\frac{1}{2}\right)^2$	ו. $\left(\frac{1}{3}x-5\right)^2$
ז. $(3m-2n)^2$	ח. $\left(x^2-\frac{3}{5}y\right)^2$	ט. $(x^2y^2-7)^2$

#### (3) פשט את הביטויים הבאים:

א. $(x-5)(x+5)$	ב. $(3+x)(x-3)$
ג. $(3x-1)(3x+1)$	ד. $(5-7x)(7x+5)$
ה. $\left(\frac{1}{2}x+6\right)\left(\frac{1}{2}x-6\right)$	ו. $\left(5y-\frac{1}{4}x\right)\left(\frac{1}{4}x+5y\right)$
ז. $(x^2+y)(x^2-y)$	ח. $(3a^2b^3-4)(3a^2b^3+4)$

4 פשט את הביטויים הבאים :

א. $(x+1)(x+2)-3x$	ב. $(x-5)(5x-1)+2(4+x)$
ג. $x(2x-1)(2x+1)-4x^2(x+1)$	ד. $-(y+3x)(y-3x)+(y-3x)^2$
ה. $x(x+3)-(6+x)(6x+2)-(x+2)^2$	
ו. $-5(x+7)(x-7)+3(2x+5)(5-x)+(x+1)^2$	

### תשובות סופיות:

א. $x^2+10x+25$	ב. $x^2+4x+4$	ג. $16x^2+40x+25$	1
ד. $36x^2+24x+4$	ה. $49x^2+14xy+y^2$	ו. $25x^2+20xy+4y^2$	
ז. $x^4+14x+49$	ח. $x^4+2x^2y^2+y^4$	ט. $x^6+4x^4y^2+4y^4x^2$	
א. $x^2-12x+36$	ב. $x^2-4x+4$	ג. $25-10x+x^2$	2
ד. $36x^2-12x+1$	ה. $9x^2-3x+\frac{1}{4}$	ו. $\frac{1}{9}x^2-3\frac{1}{3}x+25$	
ז. $9m^2-12mn+4n^2$	ח. $x^4-\frac{6}{5}x^2y+\frac{9}{25}y^2$	ט. $x^4y^4-14x^2y^2+49$	
א. $x^2-25$	ב. $x^2-9$	ג. $9x^2-1$	3
ה. $\frac{1}{4}x^2-36$	ו. $25y^2-\frac{1}{16}x^2$	ז. $x^4-y^2$	
א. $x^2+2$	ב. $5x^2-24x+13$	ג. $-4x^2-x$	4
ד. $18x^2-6xy$	ה. $-6x^2-39x-16$	ו. $-10x^2+17x+321$	

## פירוק לגורמים של ביטויים אלגבריים:

### סיכום כללי:

פירוק לגורמים הוא פעולה הפוכה לפתיחת סוגריים – נרצה להוציא את הגורמים המשותפים לאיברים מחוץ לסוגריים.

- פירוק לגורמים ע"י הוצאת איבר אחד משותף:

○ הוצאת מספר משותף:  $2x - 8 = 2(x - 4)$

○ הוצאת אות משותפת:  $x^2 - 12x = x(x - 12)$

○ הוצאת מספר ואות יחד:  $3x^2 - 21x = 3x(x - 7)$

- פירוק לגורמים ע"י נוסחאות הכפל המקוצר:

○ נוסחת הבינום של ניוטון:  $a^2 \pm 2ab + b^2 = (a \pm b)^2$

○ נוסחה להפרש ריבועים:  $a^2 - b^2 = (a + b)(a - b)$

### שאלות:

- (1) פשט את הביטויים הבאים ע"י הוצאת גורם משותף:

א.  $3x - 12$       ב.  $6y - 4$

ג.  $20 - 8a$       ד.  $4a^3 + 8b$

ה.  $75m^2 + 25m + 15$       ו.  $40a^2 - 8b^2 + 64c^2$

- (2) פשט את הביטויים הבאים ע"י הוצאת גורם משותף:

א.  $y^2 + 5y$       ב.  $3x - 11x^3$

ג.  $6y^2 + 5y^3 + 4y$       ד.  $\frac{1}{2}a^7 - \frac{1}{4}a^5 + a^3$

(3) פשט את הביטויים הבאים ע"י הוצאת גורם משותף :

א. $2x^2 - 8x$	ב. $3t^2 + 12t$
ג. $5n^3 - 20n^2 + 50n$	ד. $8y^2 + 6y^3 - 2y^4$
ה. $4x^2y^2 + 16x^2y - 20xy^2$	ו. $27mn - 3n^2m + 9n^3m$

(4) פשט את הביטויים הבאים ע"י שימוש בנוסחאות הכפל המקוצר :

א. $x^2 + 10x + 25$	ב. $x^2 + 12x + 36$
ג. $y^2 - 18y + 81$	ד. $y^2 - 22y + 121$
ה. $4x^2 + 4x + 1$	ו. $16y^2 - 8y + 1$
ז. $9x^2 - 24x + 16$	ח. $25x^2 + 70x + 49$

(5) פשט את הביטויים הבאים ע"י שימוש בנוסחאות הכפל המקוצר :

א. $r^2 - 25$	ב. $x^2 - 81$
ג. $25y^2 - 49$	ד. $121x^2 - 1$
ה. $x^2y^2 - 4$	ו. $9y^4 - 169x^4$

(6) פשט את הביטויים הבאים ע"י הוצאת גורם משותף ונוסחאות הכפל המקוצר :

א. $y - y^3$	ב. $x^3 - 10x^2 + 25x$
ג. $m^4 - 1$	ד. $196x^4 - 140x^3 + 25x^2$

## תשובות סופיות:

- (1) א.  $3(x-4)$     ב.  $2(3y-2)$     ג.  $4(5-2a)$
- ד.  $4(a^3+2b)$     ה.  $5(15m^2+5m+3)$     ו.  $8(5a^2-b^2+8c^2)$
- (2) א.  $y(y+5)$     ב.  $x(3-11x^2)$     ג.  $y(6y+5y^2+4)$
- ד.  $a^3\left(\frac{1}{2}a^4-\frac{1}{4}a^2+1\right)$
- (3) א.  $2x(x-4)$     ב.  $3t(t+4)$     ג.  $5n(n^2-4n+10)$
- ד.  $2y^2(4+3y-y^2)$     ה.  $4xy(xy+4x-5y)$     ו.  $3mn(9-n-3n^2)$
- (4) א.  $(x+5)^2$     ב.  $(x+6)^2$     ג.  $(y-9)^2$     ד.  $(y-11)^2$
- ה.  $(2x+1)^2$     ו.  $(4y-1)^2$     ז.  $(3x-4)^2$     ח.  $(5x+7)^2$
- (5) א.  $(r+5)(r-5)$     ב.  $(x+9)(x-9)$     ג.  $(5y+7)(5y-7)$
- ד.  $(11x+1)(11x-1)$     ה.  $(xy+2)(xy-2)$     ו.  $(3y^2+13x^2)(3y^2-13x^2)$
- (6) א.  $y(1+y)(1-y)$     ב.  $x(x-5)^2$     ג.  $(m^2+1)(m+1)(m-1)$
- ד.  $x^2(14x-5)^2$

## פירוק הטרינום:

### סיכום כללי:

טרינום משמעו תלת איבר מהצורה:  $ax^2 + bx + c$  כאשר  $a, b$  ו- $c$  הם מספרים כלשהם.

שיטת הטרינום מאפשרת לפרק את תלת האיבר ל-4 איברים ע"י פיצול האיבר  $bx$  לשני איברים באופן כזה שמאפשר להוציא גורם משותף.

הכלל הוא למצוא שני מספרים,  $m_1$  ו- $m_2$ , שמקיימים:  $m_1 \cdot m_2 = ac$  ו- $m_1 + m_2 = b$ .  
לאחר מכן ניתן לפרק את הטרינום:  $ax^2 + bx + c = ax^2 + m_1x + m_2x + c$ .  
השלב האחרון הוא הוצאת גורם משותף מכל זוג:  $ax^2 + \underbrace{m_1x + m_2x} + c$ .

### הערה:

במקרה שנוסחת השורשים ידועה, ניתן להיעזר בה כדי למצוא את המספרים  $m_1$  ו- $m_2$  באופן

הבא:  $m_1 = \frac{-b + \sqrt{b^2 - 4ac}}{2a}$ ,  $m_2 = \frac{-b - \sqrt{b^2 - 4ac}}{2a}$  ולאחר מכן ניתן לכתוב את הטרינום

כמכפלה:  $ax^2 + bx + c = a(x - m_1)(x - m_2)$ . אם קיים פתרון (שורש) אחד  $m_1 = m_2 = \frac{-b}{2a}$

אז נכתוב:  $ax^2 + bx + c = a(x - m_1)^2$  ואם לא קיימים פתרונות אז לא קיים פירוק כלל.

### שאלות:

1) פרק את הביטויים הבאים לפי פירוק טרינום:

א. $x^2 + 5x + 4$	ב. $x^2 - 8x + 15$	ג. $x^2 - 33x + 62$
ד. $2x^2 + 7x - 15$	ה. $3x^2 - 11x + 6$	ו. $6x^2 + 5x + 1$
ז. $2x^2 + x - 6$	ח. $x^2 - 18x + 81$	ט. $x^2 + 2x + 8$

2) פרק את הביטויים הבאים ע"י שימוש בנוסחת השורשים.  
הערה: במידה ולא למדת על נוסחת השורשים התעלם משאלה זו.

א. $6x^2 + 5x + 1$	ב. $x^2 + 5x + 4$
ג. $4x^2 + 20x + 25$	ד. $3x^2 - x + 20$

**תשובות סופיות:**

(1) א.  $(x+1)(x+4)$     ב.  $(x-3)(x-5)$     ג.  $(x-2)(x-31)$

ד.  $(2x-3)(x+5)$     ה.  $(3x-2)(x-3)$     ו.  $(3x+1)(2x+1)$

ז.  $(x+2)(2x-3)$     ח.  $(x-9)^2$     ט. אין פירוק.

(2) א.  $6\left(x+\frac{1}{3}\right)\left(x+\frac{1}{2}\right)$     ב.  $(x+1)(x+4)$     ג.  $(2x+5)^2$     ד. אין פירוק.

## שברים אלגבריים:

### סיכום כללי:

#### הגדרה:

שבר אלגברי מורכב משתי תבניות, אשר אחת מחלקת את השנייה.

$$\text{דוגמא לשברים אלגבריים: } \frac{x+1}{x+2}, \frac{3x}{x^2+1}, \frac{4}{x-x^3}$$

במקרה בו המכנה הוא מספר, לא מדובר בשבר אלגברי מכיוון שניתן לכתוב את

$$\text{הביטוי ללא צורך בחילוק בין ביטויים שונים כגון: } \frac{3x+5}{4} = \frac{3}{4}x + \frac{5}{4}$$

#### תחום הגדרה של שבר:

היות ושבר אלגברי הוא תבנית אשר יכולה לקבל ערכים שונים בעת הצבות שונות, חשוב להגביל את המספרים שניתן להציב באופן כזה שלא תתקבל חלוקה באפס.

$$\text{דוגמא: השבר } \frac{1}{x+4} \text{ לא מוגדר כאשר } x = -4 \text{ מכיוון שמתקבל: } \frac{1}{0}$$

במקרים אלו נדרוש **תנאי** על המשתנה אשר יכתב באופן הבא:  $x \neq -4$  ומשמעו היא ש- $x$  יכול לקבל על ערך מספרי אפשרי למעט -4, מכיוון שבמקרה זה השבר לא מוגדר.

#### כלל צמצום שברים אלגבריים:

ניתן לצמצם שברים אלגבריים ע"י הבאת המונה והמכנה למכפלה של ביטויים. במידה וקיימות פעולות החיבור והחיסור בין איברים שונים לא ניתן לבצע צמצום של איברים דומים בין המונה והמכנה. להלן מספר דוגמאות הנוגעות לצמצומים:

$$\bullet \text{ צמצום ע"י הוצאת גורם משותף: } \frac{2x+8}{x+4} = \frac{2(x+4)}{x+4} = \frac{2 \cdot 1}{1} = 2$$

$$\bullet \text{ צמצום ע"י נוסחת כפל מקוצר: } \frac{3x-15}{x^2-10x+25} = \frac{3(x-5)}{(x-5)^2} = \frac{3 \cdot 1}{x-5} = \frac{3}{x-5}$$

$$\bullet \text{ צמצום ע"י פירוק טרינום: } \frac{x^2-2x-3}{x^2-3x-4} = \frac{(x+1)(x-3)}{(x+1)(x-4)} = \frac{x-3}{x-4}$$

## שאלות:

(1) מצא את תחום ההגדרה של השברים האלגבריים הבאים:

$\frac{5}{x-6}$ .ב.	$\frac{x+4}{x+3}$ .א.
$\frac{x^2+1}{x^2-4x}$ .ד.	$\frac{x+7}{2x-8}$ .ג.
$\frac{x^2}{x^2-4}$ .ו.	$\frac{3}{x^2+2x+1}$ .ה.
$\frac{8x-2}{3x^3-15x^2+12x}$ .ח.	$\frac{6}{y^4-y^2}$ .ז.

(2) צמצם את השברים הבאים (במידה ולא ניתן צמצם הסבר מדוע):

$\frac{a-x}{a}$ .ב.	$\frac{ax}{a}$ .א.
$\frac{x+1}{y+1}$ .ד.	$\frac{a-ax}{a}$ .ג.
$\frac{6x}{6y}$ .ו.	$\frac{x}{x+y}$ .ה.
$\frac{x^2+y^2}{x^2y^2}$ .ח.	$\frac{x^2y}{xy^2}$ .ז.
$\frac{3x^2}{x^2+3}$ .י.	$\frac{4x^2y}{xy}$ .ט.

(3) צמצם את השברים הבאים ע"י הוצאת גורם משותף וכתוב את תחום הגדרתם:

$\frac{m^2+4m}{4m+16}$ .ב.	$\frac{3x+12}{x+4}$ .א.
$\frac{x^2-5x}{15-3x}$ .ד.	$\frac{2a-12}{a^2-6a}$ .ג.
$\frac{4x^3-2x^2}{6x-3}$ .ו.	$\frac{3-18y^2}{6y^2-1}$ .ה.
$\frac{3z^3-12z^2+4z}{z^2+5z}$ .ח.	$\frac{3y}{y^3-3y^2}$ .ז.

(4) צמצם את השברים הבאים ע"י פירוק לגורמים וכתוב את תחום הגדרתם:

$\frac{8n - n^2}{n^2 - 16n + 64} \quad \text{ב.}$	$\frac{x^2 + 10x + 25}{2x + 10} \quad \text{א.}$
$\frac{4m^2 + 20m + 25}{4m^2 + 10m} \quad \text{ד.}$	$\frac{z^3 - 4z^2}{2z^2 - 16z + 32} \quad \text{ג.}$
$\frac{a^3 + 4a^2b + 4ab^2}{3ab + 6b^2} \quad \text{ו.}$	$\frac{18y^2 - 24y + 8}{2y - 3y^2} \quad \text{ה.}$

(5) צמצם את השברים הבאים ע"י טרינום ריבועי וכתוב את תחום הגדרתם:

$\frac{m^2 - 12m + 32}{m - 4} \quad \text{ב.}$	$\frac{x + 2}{x^2 - 3x - 10} \quad \text{א.}$
$\frac{3z^2 + 26z + 16}{3z + 2} \quad \text{ד.}$	$\frac{4y - 10}{2y^2 + y - 15} \quad \text{ג.}$
$\frac{9n^2 - 12n}{4 + 5n - 6n^2} \quad \text{ו.}$	$\frac{x^2 + 5x - 36}{x^3 + 9x^2} \quad \text{ה.}$
$\frac{x^2 - 14x + 49}{x^2 + x - 56} \quad \text{ח.}$	$\frac{x^2 + 4x + 4}{x^2 + 5x + 6} \quad \text{ז.}$
$\frac{m^3n - m^2n^2 - m^2 + mn}{2m^2n^3 + mn^2 - 3n} \quad \text{י.}$	$\frac{3a^2b - 10ab^2 + 3b^3}{-3a^3b + 11a^2b^2 - 6ab^3} \quad \text{ט.}$

## תשובות סופיות:

- (1) א.  $x \neq -3$     ב.  $x \neq 6$     ג.  $x \neq 4$     ד.  $x \neq 0, x \neq 4$   
 ה.  $x \neq -1$     ו.  $x \neq -2, x \neq 2$     ז.  $y \neq 0, y \neq -1, y \neq 1$   
 ח.  $x \neq 0, x \neq 1, x \neq 4$
- (2) א.  $x$     ב. לא ניתן לצמצם.    ג.  $1-x$   
 ד. לא ניתן לצמצם.    ה. לא ניתן לצמצם.    ו.  $\frac{x}{y}$     ז.  $\frac{x}{y}$   
 ח. לא ניתן לצמצם.    ט.  $4x$     י. לא ניתן לצמצם.
- (3) א.  $x \neq -4, 3$     ב.  $\frac{m}{4}, m \neq -4$     ג.  $\frac{2}{a}, a \neq 0, 6$   
 ד.  $-\frac{x}{3}, x \neq 5$     ה.  $-3, y \neq \pm \frac{1}{\sqrt{6}}$     ו.  $\frac{2x^2}{3}, x \neq \frac{1}{2}$   
 ז.  $\frac{3}{y(y-3)}, y \neq 0, 3$     ח.  $\frac{3z^2-12z+4}{z+5}, z \neq 0, -5$
- (4) א.  $\frac{x+5}{2}, x \neq -5$     ב.  $\frac{n}{8-n}, n \neq 8$     ג.  $\frac{z^2}{2(z-4)}, z \neq 4$   
 ד.  $\frac{2m+5}{2m}, m \neq 0, -\frac{5}{2}$     ה.  $\frac{2(2-3y)}{y}, y \neq 0, \frac{2}{3}$     ו.  $\frac{a(a+2b)}{3b}, b \neq 0, a \neq -2b$
- (5) א.  $\frac{1}{x-5}, x \neq 5, -2$     ב.  $m-8, m \neq 4$     ג.  $\frac{2}{y+3}, x \neq -3, \frac{5}{2}$   
 ד.  $z+8, z \neq -\frac{2}{3}$     ה.  $\frac{x-4}{x^2}, x \neq 0, -9$     ו.  $\frac{-3n}{2n+1}, n \neq -\frac{1}{2}, \frac{4}{3}$   
 ז.  $\frac{x+2}{x+3}, x \neq -2, -3$     ח.  $\frac{x-7}{x+8}, x \neq 7, -8$   
 ט.  $\frac{3a-b}{a(2b-3a)}, a \neq 0, b \neq 0, a \neq 3b, 2b \neq 3a$     י.  $\frac{m(m-n)}{n(2mn+3)}, mn \neq 1, -\frac{3}{2}, n \neq 0$

## כפל וחילוק של שברים אלגבריים:

### סיכום כללי:

כפל שברים יתבצע ע"י הכפלת כל מונה בנפרד והכפלת כל מכנה בנפרד.  
 חילוק שברים יתבצע ע"י לקיחת ההופכי של שבר המחלק וביצוע פעולת כפל.

$$\bullet \text{ דוגמא לכפל שברים: } \frac{x+1}{x^2} \cdot \frac{x}{3x+3} = \frac{x+1}{x^2} \cdot \frac{x}{3(x+1)} = \frac{\cancel{x}(x+1)}{3x^{\cancel{2}}(x+1)} = \frac{1}{3x}$$

$$\bullet \text{ דוגמא לחילוק שברים: } \frac{4x}{y} : \frac{12}{y^2+y} = \frac{4x}{y} \cdot \frac{y^2+y}{12} = \frac{\cancel{4}x}{\cancel{y}} \cdot \frac{\cancel{y}(y+1)}{\cancel{12}_3} = \frac{x(y+1)}{3}$$

### שאלות:

(1) פשט את הביטויים הבאים:

א. $\frac{x}{3} \cdot \frac{x}{8}$	ב. $\frac{x}{3} \cdot \frac{9}{x^2}$
ג. $7y \cdot \frac{5}{y^2}$	ד. $6x^2 \cdot \frac{3}{40x}$
ה. $(x^2+3x) \cdot \frac{2}{3x+9}$	ו. $(a^2-25) \cdot \frac{20}{5a+25}$
ז. $\frac{w^2-9}{w} \cdot \frac{w^2}{2w+6}$	ח. $\frac{y+4}{y^2+16} \cdot \frac{y^2-16}{2y+8}$
ט. $\frac{z^2+30z+225}{6z+90} \cdot \frac{12}{2z-10}$	י. $\frac{5n^2}{n^2-121} \cdot \frac{2n^2+44n+242}{n+2} \cdot \frac{n^2+4n+4}{n}$

(2) פשט את הביטויים הבאים:

א. $\frac{x}{8} : \frac{x}{6}$	ב. $\frac{y}{25} : \frac{5}{y}$
ג. $a^2 : \frac{1}{6a}$	ד. $\frac{5}{6a} : a^2$
ה. $(d^2-3d) : \frac{5d-15}{5d}$	ו. $\frac{t}{t+4} : \frac{3t}{t+4}$
ז. $\frac{y^2+8y+16}{8y^2} : \frac{y^2-16}{7y^2}$	ח. $\frac{a^2-64}{a^2-36} : \frac{a+8}{a+6}$

## תשובות סופיות:

(1) א.  $\frac{x^2}{24}$     ב.  $\frac{3}{x}$     ג.  $\frac{35}{y}$     ד.  $\frac{9x}{20}$     ה.  $\frac{2x}{3}$

ו.  $4(a-5)$     ז.  $\frac{w(w-3)}{2}$     ח.  $\frac{y^2-16}{2y^2+32}$     ט.  $\frac{z+15}{z-5}$     י.  $\frac{10n(n+11)(n+2)}{n-11}$

(2) א.  $\frac{3}{4}$     ב.  $\frac{y^2}{125}$     ג.  $6a^3$     ד.  $\frac{5}{6a^3}$     ה.  $d^2$     ו.  $\frac{1}{3}$

ז.  $\frac{7(y+4)}{8(y-4)}$     ח.  $\frac{a-8}{a-6}$

## חיבור וחסור של שברים אלגברים:

### סיכום כללי:

ביצוע פעולת החיבור והחסור תתבצע באופן זהה לשברים מספריים. נרצה להרחיב את השברים כך שהמכנה של שניהם יהיה זהה, ולאחר מכן נחבר את המונים. כדי להרחיב את השברים נעזר בפעולת מציאת מכנה משותף. לשם כך נעזר בפירוקים השונים כדי להביא את הביטויים שבכל מכנה לצורתם המופשטת. דוגמא לחיבור שברים בעלי אותו מכנה:

$$\frac{1}{x} + \frac{x+1}{x} = \frac{1+(x+1)}{x} = \frac{x+2}{x}$$

דוגמא לחיבור מספר לשבר אלגברי:

$$2 + \frac{3}{x+2} = \frac{2(x+2)}{x+2} + \frac{3}{x+2} = \frac{2(x+2)+3}{x+2} = \frac{2x+7}{x+2}$$

דוגמא לחיבור שברים עם מכנים שונים (ע"י פעולת מכנה משותף):

$$\frac{1}{x+1} + \frac{1}{x} = \frac{x}{x(x+1)} + \frac{x+1}{x(x+1)} = \frac{x+x+1}{x(x+1)} = \frac{2x+1}{x(x+1)}$$

דוגמא לחיבור שברים ע"י שימוש בפירוק לגורמים (כדי למצוא מכנה משותף מינימלי):

$$\frac{1}{x^2-3x} + \frac{3}{x-3} = \frac{1}{x^2-3x} + \frac{3x}{x^2-3x} = \frac{1+3x}{x^2-3x}$$

דוגמא לחיבור שברים ע"י נוסחאות הכפל המקוצר (כדי למצוא מכנה משותף מינימלי):

$$\frac{3}{x^2-6x+9} - \frac{2}{x^2-9} = \frac{3}{(x-3)^2} - \frac{2}{(x-3)(x+3)} = \frac{3(x+3)-2(x-3)}{(x-3)^2(x+3)} = \frac{x+15}{(x-3)^2(x+3)}$$

## שאלות:

(1) פשט את הביטויים הבאים:

א.  $\frac{a}{6} + \frac{a-5}{6}$

ג.  $\frac{x-2}{x+1} + \frac{3+4x}{x+1}$

ב.  $\frac{5}{x} + \frac{4x+3}{x}$

ד.  $\frac{7z}{2z-3} - \frac{4z}{2z-3} - \frac{z+3}{2z-3}$

(2) פשט את הביטויים הבאים:

א.  $\frac{1}{ab} - \frac{5}{bc}$

ג.  $\frac{c}{ab} - \frac{ad}{bc} + \frac{2b}{cd}$

ה.  $\frac{1}{(y+1)^2} + \frac{3}{y+1}$

ב.  $\frac{1}{xy} + \frac{5}{yz} + \frac{4}{xz}$

ד.  $-\frac{5}{x} + \frac{x+1}{xy^2}$

ו.  $\frac{3}{z(z-3)} - \frac{2}{z(z-2)}$

(3) פשט את הביטויים הבאים:

א.  $1 - \frac{2}{x}$

ג.  $2 + \frac{2}{x+1}$

ה.  $\frac{a+1}{a^2} - \frac{3-a}{4a} - 3$

ב.  $1 + \frac{3}{y^2}$

ד.  $3 - \frac{1}{x} + \frac{1}{3x}$

ו.  $\frac{x}{9yz} + \frac{z}{3y^2x} + \frac{3-y}{12xz} - 3\frac{1}{2}$

(4) פשט את הביטויים הבאים:

א.  $\frac{3}{x+1} + \frac{1}{x}$

ג.  $\frac{a+1}{a+2} + \frac{3}{a}$

ב.  $\frac{4}{y+2} - \frac{3}{y}$

ד.  $\frac{1}{z+3} + \frac{2}{3z} - \frac{3}{z}$

5 פשט את הביטויים הבאים :

א.  $\frac{24}{a^2-9} + \frac{4}{a+3}$

ג.  $\frac{y}{(y-2)^2} + \frac{3y}{4-y^2}$

ה.  $\frac{x-1}{x^2+3x-40} + \frac{2}{-x^2+8x-15}$

ז.  $\frac{x}{x-3} + \frac{9-x}{x^2-8x+15}$

ב.  $\frac{3}{x^2-16} + \frac{2}{(x+4)^2}$

ד.  $\frac{3z}{z^2+4z+3} - \frac{z+0.5}{z^2+2z+1}$

ו.  $\frac{2a+3}{2a^2+15a+7} + \frac{a+3}{a^2+14a+49}$

ח.  $\frac{1}{a-b} + \frac{2}{a+2b} - \frac{3b}{a^2+ab-2b^2}$

6 פשט את הביטויים הבאים :

א.  $\frac{4}{x} \cdot \frac{x^2}{8} + \frac{9}{x+1} \cdot \frac{x+1}{18}$

ג.  $\frac{7}{y^2} : \frac{6}{y^3} - \frac{y-4}{63} \cdot \frac{3y-4}{y^2-8y+16}$

ה.  $\left( \frac{2x+1}{20x^2-28x-3} - \frac{3x+1}{30x^2-17x-2} \right) : \frac{18x+3}{6x^2-13x+6}$

ב.  $\left( \frac{2}{x} + 1 \right) \cdot \frac{x^2}{7x+14}$

ד.  $\left( 3x - \frac{2}{x^2} + \frac{1}{x} \right) : \frac{6x^3+2x-4}{x^2}$

## תשובות סופיות:

$$1. \text{ד.} \quad \frac{5x+1}{x+1} \text{ג.} \quad \frac{4x+8}{x} \text{ב.} \quad \frac{2a-5}{6} \text{א.} \quad (1)$$

$$\frac{c^2d - a^2d^2 + 2ab^2}{abcd} \text{ג.} \quad \frac{z+5x+4y}{xyz} \text{ב.} \quad \frac{c-5a}{abc} \text{א.} \quad (2)$$

$$\frac{1}{(z-2)(z-3)} \text{ו.} \quad \frac{3y+4}{(y+1)^2} \text{ה.} \quad \frac{-5y^2+x+1}{xy^2} \text{ד.}$$

$$\frac{2x+4}{x+1} \text{ג.} \quad \frac{y^2+3}{y^2} \text{ב.} \quad \frac{x-2}{x} \text{א.} \quad (3)$$

$$\frac{4x^2y+12z^2+9y^2-3y^3-126xy^2z}{36xy^2z} \text{ו.} \quad \frac{-11a^2+a+4}{4a^2} \text{ה.} \quad \frac{9x-2}{3x} \text{ד.}$$

$$-\frac{4z+21}{3z(z+3)} \text{ד.} \quad \frac{a^2+4a+6}{a(a+2)} \text{ג.} \quad \frac{y-6}{y(y+2)} \text{ב.} \quad \frac{4x+1}{x(x+1)} \text{א.} \quad (4)$$

$$\frac{2y(4-y)}{(y-2)^2(y+2)} \text{ג.} \quad \frac{5x+4}{(x-4)(x+4)^2} \text{ב.} \quad \frac{4}{a-3} \text{א.} \quad (5)$$

$$\frac{4(a^2+6a+6)}{(a+7)^2(2a+1)} \text{ו.} \quad \frac{x^2-6x-13}{(x+8)(x-5)(x-3)} \text{ה.} \quad \frac{(4z+3)(z-1)}{2(z+1)^2(z+3)} \text{ד.}$$

$$\frac{3}{a+2b} \text{ח.} \quad \frac{x-3}{x-5} \text{ז.}$$

$$\frac{1}{2} \text{ד.} \quad \frac{147y^2-594y+8}{126(y-4)} \text{ג.} \quad \frac{x}{7} \text{ב.} \quad \frac{x+1}{2} \text{א.} \quad (6)$$

$$\frac{1}{3(10x+1)} \text{ה.}$$

## שברים כפולים:

### סיכום כללי:

שבר כפול מורכב באופן הבא:  $\frac{\frac{a}{b}}{\frac{c}{d}}$  כאשר מתקיים:  $\frac{a}{b} = \frac{a}{b} \cdot \frac{d}{c} = \frac{ad}{bc}$

נובע מכאן כי ניתן לצמצם ביטויים בין שני המכנים או שני המונים בלבד.

### שאלות:

(1) פשט את הביטויים הבאים:

$\frac{5}{30t^2}$ .ג	$\frac{y+1}{2y+2}$ .ב	$\frac{4x}{12}$ .א
$\frac{4x}{x+1}$ .ו	$\frac{3y^3 - y^2}{25}$ .ה	$\frac{t^2 - 81}{9t^2}$ .ד
$\frac{1}{x} - 4 + \frac{x}{x+1}$ .ט	$\frac{t^2 - t - 20}{16t + 8}$ .ח	$\frac{8c^2}{3c^3 - 9c^2 - 12c}$ .ז
$\frac{1-3x(x+1)}{5x+5}$	$\frac{25-t^2}{2t+1}$	$\frac{40}{15c+15}$

### תשובות סופיות:

$\frac{(3y-1)(3-y)}{25}$ .ה	$\frac{t-9}{54t^2}$ .ד	$\frac{1}{6t^3}$ .ג	2.5 .ב	$\frac{x^2}{3}$ .א (1)
$\frac{5}{x}$ .ט	$\frac{t+4}{-8(t+5)}$ .ח	$\frac{c}{c-4}$ .ז	$\frac{x(x+1)}{2}$ .ו	

# מבוא לשיטות כמותיות בניהול

## פרק 2 - משוואות אלגבריות

### תוכן העניינים

47	1. משוואה ממעלה ראשונה
49	2. מערכת שתי משוואות בשני נעלמים ממעלה ראשונה
52	3. משוואות עם אינסוף פתרונות וללא פתרון
53	4. משוואה ממעלה שנייה
55	5. משוואות דו-ריבועיות
57	6. משוואות עם פרמטרים
59	7. משוואות עם שורשים
61	8. משוואות עם ערך מוחלט
62	9. מערכת משוואות ממעלה שנייה

## משוואה ממעלה ראשונה:

### סיכום כללי:

משוואה ממעלה ראשונה היא מהצורה:  $ax = b$  (כלומר, החזקה של הנעלם היא 1).

פתרון של משוואה ממעלה ראשונה הוא:  $x = \frac{b}{a}$  כאשר  $a \neq 0$ .

שלבי הפתרון הם:

1. ביצוע מכנה משותף (במידה וצריך).
2. פתיחת סוגריים אם ישנם.
3. העברת אגפים וכינוס אברים דומים (בידוד הנעלם באגף אחד והמספרים באגף שני).
4. בידוד הנעלם ומציאתו ע"י חילוק במקדם שלו.

### שאלות:

1 פתור את המשוואות הבאות (משוואות יסודיות ממעלה ראשונה):

- |                             |                                       |
|-----------------------------|---------------------------------------|
| א. $6x + 2 = 8$             | ב. $7 - 2x = 7$                       |
| ג. $2x + x = 24$            | ד. $2x + 6 = 8 + x$                   |
| ה. $-7x + 5 + 2x = 4x - 13$ | ו. $6x - 3 + 5 - 7x = x - 5x - 7$     |
| ז. $2 - 5x + 7 = -3x + 8$   | ח. $x - 2 + 5x = 4 - 3x - 5 + 7x + 7$ |

2 פתור את המשוואות הבאות (משוואות עם פתיחת סוגריים):

- |                              |                                     |
|------------------------------|-------------------------------------|
| א. $3(x - 1) - 4 = 2$        | ב. $7x - 4(3 - 4x) = -x$            |
| ג. $6(4 - x) - (6 - x) = 3x$ | ד. $5x - (3x - 7)4 = 21$            |
| ה. $x(x - 5) = x^2 - 7x + 8$ | ו. $(7 - x)(1 - x) - (x - 3)^2 = 0$ |

3 פתור את המשוואות הבאות (משוואות עם מכנה מספרי):

$$\begin{array}{ll} \text{א.} \quad \frac{x}{3} - \frac{x}{9} = -4 & \text{ב.} \quad \frac{4x}{15} - \frac{3x}{10} = 1 \\ \text{ג.} \quad \frac{2}{3}x + \frac{4}{5}x = x - \frac{7}{15} & \text{ד.} \quad \frac{5x+1}{6} - \frac{6x-1}{5} = \frac{3x+1}{4} - 1 \\ \text{ה.} \quad \frac{2}{5}(x-3) - \frac{3}{15}(4-x) = x+2 & \text{ו.} \quad 5\left(\frac{x}{3} - \frac{x}{7}\right) - x = 1 \end{array}$$

4 פתור את המשוואות הבאות (משוואות עם נעלם במכנה):

$$\begin{array}{ll} \text{א.} \quad \frac{1}{4} - \frac{2}{x} = 0 & \text{ב.} \quad \frac{1}{2} - \frac{x}{x-1} = 0 \\ \text{ג.} \quad \frac{3}{x} = \frac{1}{x+2} & \text{ד.} \quad \frac{5}{2x-1} = \frac{4}{3x+2} \\ \text{ה.} \quad \frac{x+5}{3x^2} - \frac{1}{6x} = \frac{1}{x} & \text{ו.} \quad \frac{1}{4x} + \frac{3}{x} = \frac{13}{2} \end{array}$$

5 פתור את המשוואות הבאות (משוואות עם מכנה משותף ע"י פירוק לגורמים):

$$\begin{array}{ll} \text{א.} \quad \frac{x^2+2}{3x^2+5x} = \frac{3x-1}{9x+15} & \text{ב.} \quad \frac{7}{x^2-1} + \frac{2}{x+1} + \frac{3}{2-2x} = 0 \\ \text{ג.} \quad \frac{3}{(2-x)^2} + \frac{5}{12-3x^2} = 0 & \text{ד.} \quad \frac{4x^2-24x+36}{x-3} = 12 \end{array}$$

### תשובות סופיות:

- (1) א.  $x=1$     ב.  $x=0$     ג.  $x=8$     ד.  $x=2$     ה.  $x=2$     ו.  $x=-3$
- ז.  $x=\frac{1}{2}$     ח.  $x=4$
- (2) א.  $x=3$     ב.  $x=\frac{1}{2}$     ג.  $x=2\frac{1}{4}$     ד.  $x=1$     ה.  $x=4$     ו.  $x=-1$
- (3) א.  $x=-18$     ב.  $x=-30$     ג.  $x=-1$     ד.  $x=1$     ה.  $x=-10$     ו.  $x=-21$
- (4) א.  $x=8$     ב.  $x=-1$     ג.  $x=-3$     ד.  $x=-2$     ה.  $x=2$     ו.  $x=\frac{1}{2}$
- (5) א.  $x=-6$     ב.  $x=-7$     ג.  $x=-7$     ד.  $x=6, x \neq 3$

## מערכת שתי משוואות בשני נעלמים ממעלה ראשונה:

סיכום כללי:

הגדרה:

מערכת שתי משוואות בשני נעלמים ממעלה ראשונה (ליניאריות) היא מהצורה הבאה:

$$\begin{cases} a_1x + b_1y = c_1 \\ a_2x + b_2y = c_2 \end{cases}$$

כאשר  $a_1, b_1, c_1$  ו- $a_2, b_2, c_2$  הם מקדמים מספריים.

$$\cdot \begin{cases} y = 3x - 1 \\ \frac{x + 3}{2} = y + 6 \end{cases}, \begin{cases} x + y = 3 \\ 2x - y = 1 \end{cases} : \text{דוגמאות למערכות של משוואות}$$

פתרון של מערכת משוואות:

פתרון של מערכת המשוואות הוא זוג סדור המקיים את כל המשוואות שבמערכת.

הצגה גרפית של מערכת משוואות:

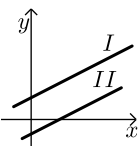
פתרון גרפי של מערכת משוואות הוא נקודת החיתוך של הישרים המייצגים כל משוואה.

יתכנו שלושה מצבים הדדיים בין שני ישרים:



- הישרים נחתכים:

במקרה זה נקודת החיתוך תהיה פתרון המערכת.



- הישרים מקבילים:

במקרה זה לא יהיה פתרון למערכת.



- הישרים מתלכדים:

במקרה זה יהיו אינסוף פתרונות למערכת המשוואות.

### פתרון אלגברי של מערכת משוואות:

- פתרון ע"י שיטת ההצבה :  
נבודד את אחד הנעלמים ממשוואה אחת ונציב אותו במשוואה השנייה.  
נבחר בשיטה זו במקרים בהם קל לבודד נעלם באחת המשוואות.
  - פתרון ע"י השוואת מקדמים :
1. כופלים (או מחלקים) משוואה אחת (או שתיהן) במספר השונה מאפס כך שתתקבלנה משוואות שקולות בעלות מקדמים נגדיים או זהים עבור אחד המשתנים.
  2. מחברים (או מחסרים) את המשוואות ומקבלים משוואה חדשה עם נעלם אחד.
  3. מוצאים את ערך הנעלם מהמשוואה החדשה ומציבים אותו באחת המשוואות המקוריות למציאת ערך הנעלם השני.

### הערה:

נוח להשתמש בשיטת השוואת המקדמים ע"י כך שמעבירים את המערכת הנתונה למערכת שקולה שבה המשתנים באגף אחד והמספר החופשי באגף השני.

### שאלות:

(1) פתור את המשוואות הבאות :

$$\begin{array}{lll} \left\{ \begin{array}{l} -3x + 2y = -16 \\ x = 5y + 14 \end{array} \right. \text{ג.} & \left\{ \begin{array}{l} y = x - 3 \\ y = 2x + 4 \end{array} \right. \text{ב.} & \left\{ \begin{array}{l} 3x + y = 11 \\ y = 5 \end{array} \right. \text{א.} \\ \left\{ \begin{array}{l} 2x + 3y = 5 \\ 5x + 7y = 11 \end{array} \right. \text{ו.} & \left\{ \begin{array}{l} -5x + 7y = -26 \\ x + 3y = -8 \end{array} \right. \text{ה.} & \left\{ \begin{array}{l} 5x - 2y = -2 \\ x + 4y = 4 \end{array} \right. \text{ד.} \end{array}$$

(2) פתור את המשוואות הבאות :

$$\begin{array}{ll} \left\{ \begin{array}{l} 5x + 2y = 14 \\ 5x + 3y = 23 \end{array} \right. \text{ב.} & \left\{ \begin{array}{l} x + 3y = 5 \\ x - 3y = 3 \end{array} \right. \text{א.} \\ \left\{ \begin{array}{l} 4x = 3y - 29 \\ 5y = 9 - 13x \end{array} \right. \text{ד.} & \left\{ \begin{array}{l} 5y = 2x \\ 4x = 5y + 8 \end{array} \right. \text{ג.} \end{array}$$

3 פתור את המשוואות הבאות :

$$\begin{cases} x+2y=1 \\ 4x+8y=5 \end{cases} \text{ א.} \quad \begin{cases} 2(x-y)+4y=1+x \\ 2-7y+x=3(x-y) \end{cases} \text{ ב.}$$

4 פתור את המשוואות הבאות :

$$\begin{cases} 3y-x+2=4x+2-3y \\ 2x-3-y=5y-4x+3 \end{cases} \text{ א.} \quad \begin{cases} \frac{x-3}{8} - \frac{x+y}{16} = \frac{y-1}{4} \\ 3(2x-y)-4x-11=0 \end{cases} \text{ ב.}$$

$$\begin{cases} \frac{3x-1}{4} - \frac{2}{5}(x-y) = \frac{3}{10}(x+3) \\ \frac{x+1}{4} - \frac{y}{2} = 1 \end{cases} \text{ ג.}$$

5 פתור את המשוואות הבאות :

$$\begin{cases} \frac{3}{x} + \frac{3}{y} = 2 \\ \frac{9}{x} - \frac{4}{y} = -7 \end{cases} \text{ ב.} \quad \begin{cases} 4x - \frac{7}{y} = -3 \\ 5x + \frac{2}{y} = 7 \end{cases} \text{ ג.} \quad \begin{cases} \frac{3}{x} + \frac{1}{y} = 4 \\ \frac{5}{x} - \frac{1}{y} = 4 \end{cases} \text{ א.}$$

6 פתור את המשוואות הבאות :

$$\begin{cases} xy=20 \\ y(3x-4)=20 \end{cases} \text{ ב.} \quad \begin{cases} x(y+2)+y=xy-5 \\ x-y=2 \end{cases} \text{ א.}$$

$$\begin{cases} 5x-4xy=22 \\ 6x+xy=-20 \end{cases} \text{ ג.}$$

### תשובות סופיות:

- 1 א. (2,5) ב. (-7,-10) ג. (4,-2) ד. (0,1) ה. (1,-3) ו. (-2,3)
- 2 א.  $(4, \frac{1}{3})$  ב.  $(-\frac{4}{5}, 9)$  ג. (4,1.6) ד. (-2,7)
- 3 א. אין פתרון. ב. אינסוף פתרונות.
- 4 א. (6,5) ב. (7,1) ג. (7,2)
- 5 א. (1,1) ב. (-3,1) ג. (1,1)
- 6 א. (-1,-3) ב. (2,10) ג. (-2,4)

## משוואות עם אינסוף פתרונות וללא פתרון:

### סיכום כללי:

#### משוואה ממעלה ראשונה:

למשוואה ממעלה ראשונה מהצורה:  $ax = b$  יתכן פתרון יחיד אם ורק אם  $a \neq 0$

מכיוון שניתן לחלק ולכתוב:  $x = \frac{b}{a}$ .

כאשר  $a = 0$  מתקבלת המשוואה  $0x = b$  ויתכנו שני מצבים:

1. אם  $b = 0$  את המשוואה היא  $0x = 0$  ויש אינסוף פתרונות המקיימים אותה.

2. אם  $b \neq 0$  את המשוואה היא  $0x = b \neq 0$  ואין אף ערך של  $x$  המקיים אותה.

### שאלות:

פתור את המשוואות הבאות:

$$(1) \quad x + 4 = 6 + x \quad (2) \quad 3x + 6 - x = 4 + 2x + 2$$

$$(3) \quad 6(x - 2) = 2x + 5 + 4x \quad (4) \quad 5x - 3 + x = 4x + 2x - 3$$

$$(5) \quad \text{נתונה המשוואה: } 3 - 2(x + 2) = 5x + \square$$

א. איזה מספר יש להציב ב- $\square$  על מנת שפתרון המשוואה יהיה 1?

ב. איזה מספר יש להציב ב- $\square$  על מנת שפתרון המשוואה יהיה 0?

ג. מצא ביטוי אלגברי שיש להציב ב- $\square$  על מנת שלמשוואה יהיו אינסוף פתרונות.

ד. מצא ביטוי אלגברי שיש להציב ב- $\square$  על מנת שלמשוואה לא יהיה פתרון.

### תשובות סופיות:

(1) אף פתרון.

(2) אינסוף פתרונות.

(3) אין פתרון.

(4) אינסוף פתרונות.

(5) א. -8      ב. -1      ג.  $-7x - 1$

ד.  $-7x + k$  (כאשר  $k$  הוא מספר כלשהו חוץ מ-1).

## משוואה ממעלה שנייה:

### סיכום כללי:

משוואה מהצורה:  $ax^2 + bx + c = 0$  ( $a \neq 0$ ), נקראת משוואה ריבועית. פתרונות המשוואה יסומנו ב- $x_1$  ו- $x_2$  ויחושבו לפי נוסחת השורשים:

$$x_{1,2} = \frac{-b \pm \sqrt{b^2 - 4ac}}{2a}$$

למשוואה ריבועית יתכנו שלושה סוגים של פתרונות:

- משוואה עם שני פתרונות ממשיים שונים.**  
 אם מתקבל מספר חיובי בתוך השורש שבנוסחת השורשים אזי למשוואה יהיו שני פתרונות ממשיים שונים.  
 דוגמא:  $x^2 + 5x - 4 = 0$ .
- משוואה עם פתרון ממשי אחד בלבד.**  
 אם מתקבל אפס בתוך השורש שבנוסחת השורשים אזי למשוואה יהיה פתרון ממשי אחד בלבד.  
 דוגמא:  $x^2 + 4x + 4 = 0$ .
- משוואה ללא פתרונות ממשיים כלל.**  
 אם מתקבל מספר שלילי בתוך השורש שבנוסחת השורשים אזי למשוואה לא יהיו פתרונות ממשיים כלל.  
 דוגמא:  $x^2 + x + 4 = 0$ .

### שאלות:

(1) פתור את המשוואות הבאות:

ב.  $-x^2 + 10x - 16 = 0$

א.  $x^2 + 3x - 10 = 0$

ד.  $2x^2 - 6x + 5 = 0$

ג.  $25x^2 - 20x + 4 = 0$

(2) פתור את המשוואות הבאות:

ב.  $-x(x-5) = (1-3x)(1-x) + 4$

א.  $4x^2 - 5x + 7 = 4 - x^2 + 13$

ד.  $(2x-1)^2 + x(2x+3) = (x-1)(x-7)$

ג.  $2(x-5)^2 - (2x-3)^2 = 10x + 21$

(3) פתור את המשוואות הבאות (משוואה חסרת  $b$ ):

$$\begin{array}{ll} \text{א. } x^2 - 36 = 0 & \text{ב. } 32x^2 - 18 = 0 \\ \text{ג. } 4x - x(x+2) = 3(x-1) - x - 6 & \text{ד. } (2x-1)^2 + (2x+1)^2 = 10 \end{array}$$

(4) פתור את המשוואות הבאות (משוואה חסרת  $c$ ):

$$\begin{array}{ll} \text{א. } -7x^2 - 14x = 0 & \text{ב. } 5x^2 - x = 0 \\ \text{ג. } 6x(x-2) - 1 = 4x - 3(x+1) + 2 & \text{ד. } (5x-2)^2 = (x-2)(x+3) + 10 \end{array}$$

(5) פתור את המשוואות הבאות:

$$\begin{array}{ll} \text{א. } \frac{4x+1}{3} - \frac{x+2}{2} = \frac{2}{x} & \text{ב. } \frac{x^2-9}{x+3} + x = x^2 - 18 \\ \text{ג. } \frac{3}{2x+2} - \frac{2x-5}{2(x-1)^2} - \frac{4}{1-x^2} = 0 & \text{ד. } \frac{x}{2x^2-72} + \frac{2}{x^2+12x+36} = \frac{8x-15}{24-4x} + 2 \end{array}$$

### תשובות סופיות:

(1) א.  $x_1 = 2, x_2 = -5$     ב.  $x_1 = 2, x_2 = 8$     ג.  $x = \frac{2}{5}$     ד. אין פתרון.

(2) א.  $x_1 = 2, x_2 = -1$     ב.  $x_1 = 1, x_2 = 1\frac{1}{4}$     ג.  $x_1 = 1, x_2 = -10$     ד.  $x_1 = 0.6, x_2 = -2$

(3) א.  $x = \pm 6$     ב.  $x = \pm \frac{3}{4}$     ג.  $x = \pm 3$     ד.  $x = \pm 1$

(4) א.  $x_1 = 0, x_2 = -2$     ב.  $x_1 = 0, x_2 = \frac{1}{5}$     ג.  $x_1 = 0, x_2 = 2\frac{1}{6}$     ד.  $x_1 = 0, x_2 = \frac{7}{8}$

(5) א.  $x_1 = 2, x_2 = -1.2$     ב.  $x = 5, x \neq -3$     ג.  $x_1 = 0, x_2 = -5$     ד.  $x_1 = -7.6, x_2 = -4\frac{2}{7}$

## משוואות דו-ריבועיות:

### סיכום כללי:

משוואה דו-ריבועית היא משוואה מהצורה:  $ax^4 + bx^2 + c = 0$  כאשר הנעלם הוא  $x$ .  
פתרון המשוואה יבוצע ע"י מעבר לפרמטר:  $x^2 = t \rightarrow at^2 + bt + c = 0$  ומציאתו.  
לאחר מכן יש להחזיר את ההצבה ולמצוא את ערכי  $x$ .

ניתן להביא משוואות לצורה זו ולהגדיר ביטוי המופיע בחזקות 2 ו-4

$$\text{כגון: } (x^2 - 1)^2 + 3(x^2 - 1) - 2 = 0 \text{ באמצעות פרמטר: } t = x^2 - 1$$

ובכך לפתור משוואה:  $t^2 + 3t - 2 = 0$  ולהחזיר את ההצבה עבור מציאת  $x$ .

דרך הפתרון תקפה לכל משוואה בה הנעלם מופיע בחזקות כפולות כגון 3 ו-6, או 4 ו-8.

### שאלות:

פתור את המשוואות הבאות:

$$x^4 - 3x^2 + 2 = 0 \quad (2) \qquad 5x^4 + 3x^2 - 8 = 0 \quad (1)$$

$$x^2(x^2 + 1) = 10(3x^2 - 10) \quad (4) \qquad 13x^2(3x^2 - 1) - 2 = 3(x^2 - 1)(x^2 + 1) \quad (3)$$

$$x^3 + 4 = \frac{32}{x^3} \quad (6) \qquad x^6 + x^3 = 56 \quad (5)$$

$$x^8 - 4x^4 - 50 = 31x^4 - 84 \quad (8) \qquad x - 9\sqrt{x} + 14 = 0 \quad (7)$$

$$(2x^2 - x)^2 - 4(2x^2 - x) + 3 = 0 \quad (10) \qquad 125x^6 - 1 = 124(x^6 + x^3 + 1) \quad (9)$$

$$\frac{21}{x^2 - 4x + 10} = 6 + x^2 - 4x \quad (12) \qquad (x^2 + 2x)^2 + 7x^2 + 14x = -6 \quad (11)$$

$$\frac{x^2 + 2x + 2}{x^2 + 2x + 3} = \frac{7}{6} - \frac{x^2 + 2x + 1}{x^2 + 2x + 2} \quad (14) \qquad \frac{12}{x^2 + 2x - 8} = 1 + \frac{7.5}{x^2 + 2x - 3} \quad (13)$$

$$\frac{x^2 - 1}{4x^2 - 28} + 2 = \frac{9}{x^4 - 8x^2 + 7} + \frac{x^2}{2x^2 - 2} \quad (16) \qquad \frac{3}{3x^2 - 15} + \frac{1}{x^2 + 5} = \frac{10}{x^4 - 25} \quad (15)$$

$$\frac{3x^4}{(x+2)^2} + \frac{3x^2}{x+2} = 6 \quad (18) \qquad \left(2x + \frac{3}{x}\right)^2 + 35 = 12\left(2x + \frac{3}{x}\right) \quad (17)$$

$$(x^2 - 5x + 6)(x^2 - 5x - 8) = -24 \quad (20) \qquad (2x - x^2 + 3)(2x - x^2 - 2) = 0 \quad (19)$$

**תשובות סופיות:**

$$x = \pm 1 \quad (1)$$

$$x = \pm 1, \pm \sqrt{2} \quad (2)$$

$$x = \pm \frac{1}{2}, \pm \frac{1}{3} \quad (3)$$

$$x = \pm 2, \pm 5 \quad (4)$$

$$x_1 = \sqrt[3]{7}, x_2 = -2 \quad (5)$$

$$x = -2, \sqrt[3]{4} \quad (6)$$

$$x = 49 \quad (7)$$

$$x_{1,2} = \pm \sqrt[4]{34}, x_{3,4} = \pm 1 \quad (8)$$

$$x = 5, -1 \quad (9)$$

$$x_1 = 1.5, x_2 = -1, x_3 = 1, x_4 = -\frac{1}{2} \quad (10)$$

$$x = -1 \quad (11)$$

$$x_{1,2} = 1, 3 \quad (12)$$

$$x_1 = 0, x_2 = -2, x_3 = 3.06, x_4 = -5.06 \quad (13)$$

$$x_1 = 0, x_2 = -2 \quad (14)$$

(15) אין פתרונות.

$$x = \pm \sqrt{\frac{3}{7}} \quad (16)$$

$$x = \frac{1}{2}, 1, \frac{3}{2}, 3 \quad (17)$$

$$x = -1, 2 \quad (18)$$

$$x = 3, -1 \quad (19)$$

$$x = \pm 1, 4, 6 \quad (20)$$

## משוואות עם פרמטרים:

### סיכום כללי:

משוואה עם פרמטר הינה משוואה שמכילה שני סוגים של גדלים – משתנים ופרמטרים. את המשתנים מקובל לסמן באותיות  $x$ ,  $y$ ,  $z$  ואת הפרמטרים מסמנים בשאר האותיות. פתרון המשוואה יתקבל ע"י בידוד המשתנה כך שיבוטא באמצעות הפרמטרים שבמשוואה.

למשל פתרון המשוואה:  $mx = 4$  (כאשר  $x$  הוא הנעלם ו- $m$  הוא פרמטר) הוא:  $x = \frac{4}{m}$

אשר מבוטא באמצעות הפרמטר  $m$ .

בכתיבת פתרון של משוואה עם פרמטרים יש לציין את תחום ההגדרה של הפרמטר עבורו הפתרון הוא בעל משמעות.

בדוגמא הנ"ל תחום ההגדרה הוא:  $m \neq 0$ .

### שאלות:

(1) פתור את המשוואות הבאות:

$$\text{א. } 3x - b = (b+1)x - 6 \quad \text{ב. } \frac{1}{3}(a-3x) = \frac{1}{a}(ax-3)$$

$$\text{ג. } (x-2a)(x-2b) = x^2 - 2(a^2 + b^2) \quad \text{ד. } \frac{m+1}{x-1} = \frac{m-1}{x+1}$$

$$\text{ה. } \frac{x}{a^2 - a} - \frac{1}{2a} = \frac{ax+x}{2a^3 - 4a^2 + 2a} - \frac{2}{a^3 - 2a^2 + a}$$

(2) פתור את מערכות המשוואות הבאות:

$$\text{א. } \begin{cases} x + my = 1 \\ x + y = m \end{cases} \quad \text{ב. } \begin{cases} ax + y = 2 \\ x + ay = 4 \end{cases}$$

$$\text{ג. } \begin{cases} \frac{x}{m} + y = m \\ x - m^2 y = 1 \end{cases} \quad \text{ד. } \begin{cases} (m-1)x - (2m+3)y = 5 \\ (m+2)x - (2m-1)y = 10m \end{cases}$$

$$\text{ה. } \begin{cases} (2a+b)x - (2a-b)y = 8ab \\ (2a-b)x + (2a+b)y = 8a^2 - 2b^2 \end{cases}$$

3 פתור את המשוואות הריבועיות הבאות:

$$\text{א. } x^2 - 2mx + m^2 - 1 = 0 \quad \text{ב. } x^2 - 2x + 4a = a^2 + 3$$

$$\text{ג. } x^2 + m(x+10) = 2m^2 - 5x \quad \text{ד. } \frac{1}{a-x} + \frac{1}{a} + \frac{1}{a+x} = 0$$

$$\text{ה. } (m^2 + 1)x^2 - m^2x - 1 = 0 \quad \text{ו. } \frac{a}{x} + \frac{1}{b} = \frac{x}{a} + b$$

$$\text{ז. } x + \frac{1}{x} = \frac{a-b}{a+b} + \frac{a+b}{a-b}$$

תשובות סופיות:

$$\text{(1) א. } x = \frac{b-6}{2-b}, b \neq 2 \quad \text{ב. } x = \frac{a^2+9}{6a}, a \neq 0 \quad \text{ג. } x = a+b \quad \text{ד. } x = -m \quad \text{ה. } x = a+1$$

$$\text{(2) א. } m \neq 1, (m+1, -1) \quad \text{ב. } a \neq \pm 1, \left( \frac{2a-4}{a^2-1}, \frac{4a-2}{a^2-1} \right)$$

$$\text{ג. } m \neq 0-1, \left( m^2 - m + 1, \frac{m-1}{m} \right) \quad \text{ד. } m \neq 1, -2, (2m+1, m-2)$$

$$\text{ה. } b \neq \pm 2a, (2a+b, 2a-b)$$

$$\text{(3) א. } x = m+1, m-1 \quad \text{ב. } x = a-1, 3-a \quad \text{ג. } x = m-5, -2m$$

$$\text{ד. } a \neq 0, x \neq \pm a, x = \pm a\sqrt{3} \quad \text{ה. } x = 1, -\frac{1}{m^2+1}$$

$$\text{ו. } a, b \neq 0, x = \frac{a}{b}, -ab \quad \text{ז. } a \neq \pm b, x = \frac{a+b}{a-b}, \frac{a-b}{a+b}$$

## משוואות עם שורשים:

### סיכום כללי:

פתרון משוואה מהצורה  $\sqrt{x} = a$  יתקבל ע"י העלאה בריבוע של שני אגפי המשוואה באופן הבא:  $x = a^2 \rightarrow (\sqrt{x})^2 = (a)^2$ .

### הערות:

- (1) יש לזכור בעת העלאה בריבוע של שני אגפי המשוואה יש לבדוק את כל הפתרונות המתקבלים ע"י הצבתם במשוואה המקורית.
- (2) למשוואה מהצורה  $\sqrt{x} = a$  שבה  $a < 0$  אין פתרון.
- (3) יש לסדר תחילה משוואות שבהן הביטוי עם שורש אינו מבודד.
- (4) במשוואות שבהן יותר מביטוי אחד עם שורש יש לבודד תחילה את אחד הביטויים, להעלות בריבוע ולאחר מכן לחזור על התהליך ולבצע העלאה בריבוע פעם נוספת.

### שאלות:

פתור את המשוואות הבאות:

- |  |   |
|--|---|
| $\sqrt{x+2} = x$ (2)                           | $\sqrt{2x+5} = 7$ (1)                               |
| $\sqrt{2x+7} + 4 = x$ (4)                      | $\sqrt{3x+1} + x = 13$ (3)                          |
| $\sqrt{10x+6} + 9 = x$ (6)                     | $\sqrt{x-1} + 3 = x$ (5)                            |
| $\sqrt{24-x} + 3 = 2x$ (8)                     | $\sqrt{x+6} - 2 = 2x$ (7)                           |
| $2x = 16 - 3\sqrt{x-1}$ (10)                   | $\sqrt{x+16} + 4 = 2x$ (9)                          |
| $\sqrt{x^2 - 5x + 12} = 2\sqrt{6-x}$ (12)      | $\sqrt{3x+5} = \sqrt{x+17}$ (11)                    |
| $\sqrt{2x-1} + 3 = \sqrt{7x+1}$ (14)           | $\sqrt{x-1} \cdot \sqrt{2x-5} = \sqrt{11-x^2}$ (13) |
| $\sqrt{2x-3} + \sqrt{3-x} = 2$ (16)            | $\sqrt{9x-8} - 3\sqrt{x+4} = -2$ (15)               |
| $\sqrt{2x-2} + \sqrt{5x-4} = \sqrt{3x-2}$ (18) | $\sqrt{x+3} + \sqrt{x-2} = \sqrt{4x+1}$ (17)        |
|  | $3\sqrt{x-1} + \sqrt{2x-3} = 2\sqrt{x+2}$ (19)      |

**תשובות סופיות:**

- |                         |             |
|-------------------------|-------------|
| $x=2$ (2                | $x=22$ (1   |
| $x=9$ (4                | $x=8$ (3    |
| $x=25$ (6               | $x=5$ (5    |
| $x=3.75$ (8             | $x=0.25$ (7 |
| $x=5$ (10               | $x=4.25$ (9 |
| $x=4, -3$ (12           | $x=6$ (11   |
| $x=5$ (14               | $x=3$ (13   |
| $x=2, 2\frac{8}{9}$ (16 | $x=12$ (15  |
| $x=1$ (18               | $x=6$ (17   |
|                         | $x=2$ (19   |

## משוואות עם ערך מוחלט:

סיכום כללי:

הגדרה:

ערך מוחלט הינו המרחק של מספר מ-0 ומוגדר באופן הבא:  $|x| = \begin{cases} x & x \geq 0 \\ -x & x < 0 \end{cases}$ .

משוואה עם ערך מוחלט:

משוואה עם ערך מוחלט היא מהצורה:  $|x| = a$ .

כדי לפתור משוואה עם ערכים מוחלטים יש למצוא את נקודות האפס של כל ערך מוחלט (קרי: הנקודות בהן הביטוי שבתוך הערך המוחלט מתאפס) ולפצל את המשוואה הנתונה לתחומים עבור כל תחום.

שאלות:

פתור את המשוואות הבאות:

$ 3x-24 =x$ (2)	$ 3x+14 =7$ (1)
$2x- 8-x =10$ (4)	$ 12-x =3x$ (3)
$ 14-3x =2 x+5 $ (6)	$ 4x-5 = 2x+13 $ (5)
$ x+2 +6= 2x-4 $ (8)	$ x +7= 2x $ (7)
$ 10-3x - x+4 = 2x-6 $ (10)	$ x+2 + 2x-6 = 4x+8 $ (9)

תשובות סופיות:

$x=6$ (4)	$x=3$ (3)	$x=6, 12$ (2)	$x=-\frac{7}{3}, -7$ (1)
$x=12, -1\frac{1}{3}$ (8)	$x=\pm 7$ (7)	$x=24, \frac{4}{5}$ (6)	$x=9, -1\frac{1}{3}$ (5)
		$x=0$ (10)	$x=0, -12$ (9)

## מערכת משוואות ממעלה שנייה:

### סיכום כללי:

מערכת משוואות ריבועיות מיוחסת למערכת של שתי משוואות (לפחות) שאחת מהן מכילה את אחד מהנעלמים בריבוע. למערכת משוואות ריבועיות יכולים להתקבל עד 4 פתרונות שונים. יש לפתור את המערכת לפי הטכניקות הרגילות של בידוד והצבה או השוואת מקדמים.

### שאלות:

פתור את מערכות המשוואות הבאות:

$$\begin{cases} 2x^2 + y^2 = 36 \\ x^2 + 3y = 10 \end{cases} \quad (2) \qquad \begin{cases} x^2 + y^2 = 20 \\ x + y = 6 \end{cases} \quad (1)$$

$$\begin{cases} x^2 - 2y^2 = 17 \\ xy = -10 \end{cases} \quad (4) \qquad \begin{cases} 3x^2 + 4y^2 = 16 \\ 5x^2 - 3y^2 = 17 \end{cases} \quad (3)$$

$$\begin{cases} x^2 - 2xy + 8y^2 = 8 \\ 3xy - 2y^2 = 4 \end{cases} \quad (6) \qquad \begin{cases} x^2 - xy - 20y^2 = 0 \\ x + 6y = 1 \end{cases} \quad (5)$$

$$\begin{cases} 16x^2 - y^2 = 391 \\ 4x - y = 23 \end{cases} \quad (8) \qquad \begin{cases} x^2 - y^2 = 33 \\ x + y = 11 \end{cases} \quad (7)$$

$$\begin{cases} \frac{3}{x} + \frac{1}{y} = 5 \\ \frac{4}{y} - \frac{1}{x} = -19 \end{cases} \quad (10) \qquad \begin{cases} 4xy + x = -15 \\ \frac{3}{y} - 2x = 16 \end{cases} \quad (9)$$

$$\begin{cases} xy = 24 \\ (y-x)^2 - 7(y-x) + 10 = 0 \end{cases} \quad (12) \qquad \begin{cases} \frac{3}{x} + \frac{5}{y} = 21 \\ \frac{8}{x} - \frac{1}{y} = 13 \end{cases} \quad (11)$$

$$\begin{cases} \sqrt{\frac{x}{y}} + \sqrt{\frac{y}{x}} = \frac{10}{3} \\ x^2 + y^2 = 9xy + 25 \end{cases} \quad (14) \qquad \begin{cases} x^2y - xy^2 = 84 \\ x^2 - 2xy + y^2 + 5x - 5y = 24 \end{cases} \quad (13)$$

## תשובות סופיות:

- |   |  |
|---|--|
| $(\pm 4, -2)$ <b>(2)</b>  | $(2, 4), (4, 2)$ <b>(1)</b>  |
| $(5, -2), (-5, 2)$ <b>(4)</b>   | $(\pm 2, \pm 1)$ <b>(3)</b>  |
| $\left(3, \frac{1}{2}\right), \left(-3, -\frac{1}{2}\right), (2, 1), (-2, -1)$ <b>(6)</b> | $\left(-2, \frac{1}{2}\right), \left(\frac{5}{11}, \frac{1}{11}\right)$ <b>(5)</b> |
| $(5, -3)$ <b>(8)</b>  | $(7, 4)$ <b>(7)</b>  |
| $\left(\frac{1}{3}, -\frac{1}{4}\right)$ <b>(10)</b>                                      | $\left(-5, \frac{1}{2}\right), \left(-24, -\frac{3}{32}\right)$ <b>(9)</b>         |
| $(4, 6), (-6, -4), (3, 8), (-8, -3)$ <b>(12)</b>  | $\left(\frac{1}{2}, \frac{1}{3}\right)$ <b>(11)</b>                                |
| $(-1.65, 6.35), (-6.35, 1.65), (7, 4), (-4, -7)$ <b>(13)</b>                              |  |
| $(5, 45), (-5, -45), (45, 5), (-45, -5)$ <b>(14)</b>                                      |  |

# מבוא לשיטות כמותיות בניהול

פרק 3 - אי שוויונים אלגבריים

תוכן העניינים

64	1. אי-שוויונים ממעלה ראשונה.
65	2. אי-שוויונים ממעלה שנייה.
66	3. אי-שוויונים ממעלה שלישית.
67	4. אי-שוויונים עם מנה.
68	5. אי-שוויונים כפולים מערכות או, וגם.
69	6. שאלות מסכמות – אי-שוויונים.
71	7. תחום הגדרה.

## אי-שויונים ממעלה ראשונה:

### סיכום כללי:

#### מה מותר?

- לחבר או לחסר כל מספר או ביטוי.
- לכפול או לחלק בכל מספר או ביטוי חיובי.
- לכפול או לחלק בכל מספר או ביטוי שלילי תוך הפיכת סימן אי-השוויון.
- להעלות בחזקה אי זוגית.
- להעלות בחזקה זוגית אם שני אגפי אי-השוויון אינם שליליים.

#### מה אסור?

- לכפול או לחלק בביטוי שלא יודעים את סימנו.
- להעלות בחזקה זוגית כשיש אגף שלילי.

### שאלות:

פתור את אי-השוויונים הבאים:

$$6x > 2(3x-1) \quad (2) \qquad 45x-26 > 109 \quad (1)$$

$$(x-2)^2 + 4 < (x+2)^2 + 20 \quad (4) \qquad 2(x-5) \geq \frac{1}{2}(4x+6) \quad (3)$$

$$4(6x-8) < 8(3x-4) \quad (6) \qquad \frac{8x-4}{2} < \frac{9(x+1)}{3} \quad (5)$$

$$\frac{7-x}{10} - \frac{3x-1}{5} + \frac{x+4}{3} < 7 \quad (8) \qquad \frac{x-6}{3} - \frac{x-4}{4} \geq 12-x \quad (7)$$

### תשובות סופיות:

- |                 |               |            |
|-----------------|---------------|------------|
| $x > 3$ (1)     | $x$ כל (2)    | $x$ אף (3) |
| $x > -2$ (4)    | $x < 5$ (5)   | $x$ אף (6) |
| $x \geq 12$ (7) | $x > -13$ (8) |            |

## אי-שוויונים ממעלה שנייה:

### שאלות:

פתור את אי-השוויונים הבאים:

$$x^2 - 12x > -32 \quad (10)$$

$$x^2 < 144 \quad (9)$$

$$(x+2)(x+4) < 35 \quad (12)$$

$$(x+2)(x+5) < 0 \quad (11)$$

$$(x-3)(x-7) \geq 8x - 56 \quad (14)$$

$$-x^2 + 13x + 30 < 0 \quad (13)$$

$$(5x+6)^2 \leq 4(x-3)^2 \quad (16)$$

$$(x-5)^2 + x(x+2) < 89 \quad (15)$$

$$x^2 - 10x + 25 > 0 \quad (18)$$

$$-3x^2 + 12x > 0 \quad (17)$$

$$2x^2 + 2x + 24 \geq 0 \quad (20) \quad (x-3)^2 > (x-1)(x+6) - x^2 - 3x \quad (19)$$

### תשובות סופיות:

$$-5 < x < -2 \quad (11)$$

$$x < 4, x > 8 \quad (10)$$

$$-12 < x < 12 \quad (9)$$

$$x \leq 7, x \geq 11 \quad (14)$$

$$x < -2, x > 15 \quad (13)$$

$$-9 < x < 3 \quad (12)$$

$$0 < x < 4 \quad (17)$$

$$-4 \leq x \leq 0 \quad (16)$$

$$-4 < x < 8 \quad (15)$$

$$x \text{ כל} \quad (20)$$

$$x < 3, x > 5 \quad (19)$$

$$x > 5, x < 5 \quad (18)$$

## אי-שוויונים ממעלה שלישית:

### שאלות:

פתור את אי-השוויונים הבאים:

$$x(x^2 + x + 1) > 0 \quad (22) \qquad (x-1)(x-2)(x-3) > 0 \quad (21)$$

$$x^3 - 25x \geq 0 \quad (24) \qquad (-2x^2 - 3x + 2)(x+1) \leq 0 \quad (23)$$

$$(x^2 + 8x + 20)(3x - 5) \leq 0 \quad (26) \qquad (x^2 + 3x + 5)(x - 2) > 0 \quad (25)$$

$$x^3 - 6x^2 + 9x \leq 0 \quad (28) \qquad (x^2 - x - 6)(x - 1) < 0 \quad (27)$$

$$(x-2)(x-4)(x-1) < 0 \quad (30) \qquad (x^2 + 6)(x+3) > 0 \quad (29)$$

### תשובות סופיות:

$$-2 \leq x \leq -1, x \geq \frac{1}{2} \quad (23) \qquad x > 0 \quad (22) \qquad 1 < x < 2, x > 3 \quad (21)$$

$$x \leq 1\frac{2}{3} \quad (26) \qquad x > 2 \quad (25) \qquad -5 \leq x \leq 0, x \geq 5 \quad (24)$$

$$x > -3 \quad (29) \qquad x \leq 0, x = 3 \quad (28) \qquad x < -2, 1 < x < 3 \quad (27)$$

$$x < 1, 2 < x < 4 \quad (30)$$

## אי-שוויונים עם מנה:

### שאלות:

פתור את אי-השוויונים הבאים:

$$\frac{x-1}{3x+2} \geq -3 \quad (32)$$

$$\frac{x-1}{x^2-9} > 0 \quad (31)$$

$$\frac{x-3}{2x^2-10x+12} > 0 \quad (34)$$

$$\frac{1}{x^2-16} > 0 \quad (33)$$

$$\frac{1}{-3(x-1)} < 0 \quad (36)$$

$$\frac{2x-1}{x-5} \leq 0 \quad (35)$$

$$\frac{1}{x^2-5x+6} < 0 \quad (38)$$

$$\frac{x-1}{x+2} \leq 1 \quad (37)$$

$$\frac{1}{x^2-8x+12} \geq 0 \quad (40)$$

$$\frac{x^2-7x+6}{-x^2+3x-7} \geq 0 \quad (39)$$

### תשובות סופיות:

$$x < -4, x > 4 \quad (33)$$

$$x < -\frac{2}{3}, x \geq -\frac{1}{2} \quad (32)$$

$$-3 < x < 1, x > 3 \quad (31)$$

$$x > 1 \quad (36)$$

$$\frac{1}{2} \leq x < 5 \quad (35)$$

$$2 < x < 3, x > 3 \quad (34)$$

$$1 \leq x \leq 6 \quad (39)$$

$$2 < x < 3 \quad (38)$$

$$x > -2 \quad (37)$$

$$x < 2, x > 6 \quad (40)$$

## אי-שוויונים כפולים מערכות או, וגם:

### שאלות:

פתור את אי-השוויונים הבאים:

$$0 < \frac{1}{x+4} < 2 \quad (42)$$

$$3 < x+1 < 5 \quad (41)$$

$$0 < \frac{8-3x}{5-2x} < 4 \quad (44)$$

$$-1 < \frac{x-1}{x+1} < 1 \quad (43)$$

$$6 < \frac{2x+10}{3} \leq \frac{7x-20}{5} \quad (46)$$

$$6x-38 \leq x-3 \leq 5x+7 \quad (45)$$

$$\frac{4x+5}{15} > \frac{3x-8}{5} + \frac{9-x}{3} > 11 \quad (48)$$

$$-1 \leq \frac{2x-6}{4} < \frac{x+2}{3} \quad (47)$$

### תשובות סופיות:

$$x > 0 \quad (43)$$

$$x > -3\frac{1}{2} \quad (42)$$

$$2 < x < 4 \quad (41)$$

$$x \geq 10 \quad (46)$$

$$-2.5 \leq x \leq 7 \quad (45)$$

$$x < 2\frac{2}{5}, x > 2\frac{2}{3} \quad (44)$$

$$\emptyset \quad (48)$$

$$1 \leq x < 13 \quad (47)$$

## שאלות מסכמות – אי-שוויונים:

### שאלות:

פתור את אי-השוויונים הבאים:

$$x \leq -\frac{3}{4} \cap \{-2 < x \leq 5 \cup 0 < x < 8\} \quad (1)$$

$$\frac{(x-3)(x+4)}{2-x} \leq 0 \quad (3) \quad x(x+5) - 3x + 12 \leq 2x - 1 - x(4-x) \quad (2)$$

$$\frac{(2x-3)(x-12)}{(x+1)(4-x)} \geq 0 \quad (5) \quad \frac{(x-5)(3x+1)}{(2-x)(x+7)} < 0 \quad (4)$$

$$\frac{(x-6)^2(x+1)}{x-2} > 0 \quad (7) \quad x(x+3)(2x-5) < 0 \quad (6)$$

$$\frac{x-3}{x^2+2} > 0 \quad (9) \quad \frac{5-2x}{(x-8)^2} \leq 0 \quad (8)$$

$$\frac{x^2-6x+9}{x^3-x} > 0 \quad (11) \quad \frac{x^2-4x}{x^2+2x-3} > 0 \quad (10)$$

$$\frac{x}{x^2-4} + \frac{1}{x+2} < \frac{1}{x-2} \quad (13) \quad \frac{x-7}{x^2+x+3} > 0 \quad (12)$$

$$6 < 5x - x^2 \cap x^2 > 3x + 10 \quad (15) \quad \frac{2x^2}{x^2-6x+8} \geq \frac{x}{x-4} - \frac{x}{x-2} \quad (14)$$

$$1 < \frac{x-1}{x-4} \leq 2 \quad (17) \quad \frac{3}{x-1} - \frac{2}{x} > 0 \cup \frac{1}{x-3} < \frac{1}{1-x} \quad (16)$$

$$(18) \text{ לאלו ערכי } x \text{ נמצאת הפונקציה } f(x) = \frac{x}{x-3} \text{ מעל הפונקציה } g(x) = \frac{x+1}{x+3} ?$$

## תשובות סופיות:

- |   |                                      |
|---|--------------------------------------|
| $x \leq -4$ (2)                           | $-2 < x \leq -\frac{3}{4}$ (1)       |
| $x < -7, -\frac{1}{3} < x < 2, x > 5$ (4) | $-4 \leq x < 2, x \geq 3$ (3)        |
| $x < -3, 0 < x < 2.5$ (6)                 | $-1 < x \leq 1.5, 4 < x \leq 12$ (5) |
| $2.5 \leq x < 8, x > 8$ (8)               | $x < -1, 2 < x < 6, x > 6$ (7)       |
| $x < -3, 0 < x < 1, x > 4$ (10)           | $x > 3$ (9)                          |
| $x > 7$ (12)                              | $-1 < x < 0, 1 < x < 3, x > 3$ (11)  |
| $x \leq 0, 1 \leq x < 2, x > 4$ (14)      | $x < -2, 2 < x < 4$ (13)             |
| $x \neq 1$ (16)                           | $x \neq 7$ (15)                      |
| $-3 < x < -\frac{3}{5}, x > 3$ (18)       | $x \geq 7$ (17)                      |

## תחום הגדרה:

### שאלות:

(1) מצא את תחום ההגדרה של הפונקציות הבאות:

א. $f(x) = \sqrt{3x-4}$	ב. $f(x) = \sqrt{x^2 - 5x - 6}$
ג. $f(x) = \sqrt{12x - x^2 - x^3}$	ד. $f(x) = \sqrt{\frac{x+5}{x^2-4}}$
ה. $f(x) = \frac{1}{\sqrt{x+2}-x}$	ו. $f(x) = \frac{\sqrt{3x^2-2x-1}}{2x-3}$

(2) מצא את תחום ההגדרה של הפונקציות הבאות:

א. $f(x) = \sqrt{\sqrt{x+2}-3}$	ב. $f(x) = \frac{1}{x+\sqrt{x+6}}$
ג. $f(x) = \sqrt{\frac{2x^2+x-3}{x^2+5x+9}}$	ד. $f(x) = \frac{\sqrt{x^2+5x+6}}{x-1}$

(3) תחום ההגדרה של הפונקציה:  $f(x) = \sqrt{ax-x^2-4}$  הוא  $1 \leq x \leq 4$ . מצא את ערכו של הפרמטר  $a$ .

(4) תחום ההגדרה של הפונקציה:  $f(x) = \sqrt{\frac{x+a}{x-a}}$  הוא  $x > 2, x \leq -2$ . מצא את ערכו של הפרמטר  $a$ .

(5) נתונה הפונקציה:  $f(x) = \sqrt{\sqrt{x+6}-a}$ , ( $a$  פרמטר חיובי).

א. הבע באמצעות  $a$  את תחום הגדרתה.

ב. מגדירים פונקציה נוספת:  $g(x) = \sqrt{\frac{2x}{x+5}}$ .

ידוע כי תחום ההגדרה של שתי הפונקציות מכסה את כל ציר המספרים. מצא את תחום הערכים האפשרי של הפרמטר  $a$ .

## תשובות סופיות:

- (1) א.  $x \geq 1\frac{1}{3}$     ב.  $x \leq -1, x \geq 6$     ג.  $x \leq -4, 0 \leq x \leq 3$
- ד.  $-5 \leq x < -2, x > 2$     ה.  $-2 \leq x < 2, x > 2$     ו.  $x \leq -\frac{1}{3}, 1 \leq x < \frac{3}{2}, x > \frac{3}{2}$
- (2) א.  $x \geq 7$     ב.  $-6 \leq x \neq -2$     ג.  $x \leq -1\frac{1}{2}, x \geq 1$
- ד.  $x \leq -3, -2 \leq x \neq 1$
- (3)  $a = 5$
- (4)  $a = 2$
- (5) א.  $x \geq a^2 - 6$     ב.  $0 < a \leq 1$

# מבוא לשיטות כמותיות בניהול

פרק 4 - חוקי החזקות והשורשים

תוכן העניינים

73	1. חוקי החזקות.....
78	2. חוקי השורשים.....
82	3. כתיבה מדעית של מספרים.....

## חוקי החזקות:

סיכום כללי:

סיכום חוקי החזקות:

$$\begin{array}{lll}
 a^n \cdot a^m = a^{m+n} & .3 & a^1 = a & .2 & a^0 = 1 & .1 \\
 a^m \cdot b^m = (a \cdot b)^m & .6 & (a^n)^m = a^{n \cdot m} & .5 & \frac{a^n}{a^m} = a^{n-m} & .4 \\
 \left(\frac{a}{b}\right)^{-m} = \left(\frac{b}{a}\right)^m & .9 & a^{-m} = \frac{1}{a^m} & .8 & \frac{a^m}{b^m} = \left(\frac{a}{b}\right)^m & .7
 \end{array}$$

שאלות:

(1) פשט את הביטויים הבאים בעזרת החוקים:  $a^n a^m = a^{n+m}$  ו-  $\frac{a^n}{a^m} = a^{n-m}$

$$\begin{array}{lll}
 b^2 b^5 b^{12} b^3 & .ג & t^3 t^5 t^7 & .ב & a^2 a^6 & .א \\
 \frac{c^6}{c^2} & .ו & \frac{n^{14}}{n^9} & .ה & \frac{k^8}{k^3} & .ד \\
 \frac{y^3 y^{15}}{y^4 y^{14}} & .ט & \frac{x^{30}}{x^9 x^{18}} & .ח & \frac{a^3 a^{19}}{a^{15}} & .ז \\
 \frac{5^{20} 5^3 5^{16}}{5^4 5^{22} 5^8} & .יב & \frac{2^{16} 2^2}{2^{10}} & .יא & 3^2 3^3 3^4 & .י
 \end{array}$$

(2) פשט את הביטויים הבאים בעזרת החוקים:  $a^n a^m = a^{n+m}$  ו-  $\frac{a^n}{a^m} = a^{n-m}$

$$\begin{array}{lll}
 \frac{x^8 y^5 y^9 x^2}{y^4 x^4} & .ג & \frac{a^{10} b^{13} a^3}{b^4 b^6 b^2 a^{12}} & .ב & \frac{3^4 2^7}{2^6 3^2} & .א
 \end{array}$$

(3) לפניך הביטוי הבא:  $\frac{3^6 2^{17} 3^3 2^4}{3^4 2^3 2^2}$

מצא  $n$  כך שיתקיים שוויון בין הביטוי  $243 \cdot 2^n$  לבין הביטוי הנתון.

(4) חשב ללא מחשבון את ערכי הביטויים הבאים:

$\frac{9^3 \cdot 27^2}{3^9 \cdot 81}$ .ב.	$\frac{2^3 \cdot 2^7}{2^4 \cdot 2^5}$ .א.	
$2^3 + 2^5$ .ד.	$\frac{10^9 \cdot 25^5 \cdot 8^{-1}}{40^3 \cdot 125^5}$ .ג.	

(5) פשט את הביטויים הבאים בעזרת החוק:  $(a^n)^m = a^{n \cdot m}$ .

$(x^3 x^{10})^2$ .ג.	$(c^3)^{10}$ .ב.	$(a^2)^4$ .א.
$\frac{d^{20} (d^4)^2}{d^{12} (d^3)^2}$ .ו.	$\frac{n^7 n^8}{(n^3)^4}$ .ה.	$\frac{(b^2)^3}{b^2 b^3}$ .ד.
$\frac{(8^3)^8 8^{11}}{(8^2 8)^3 8^8}$ .ט.	$\frac{3^6 (3^3 3^2)^6}{3^{28} (3^2)^3}$ .ח.	$\frac{2^5 (2^4)^2 2^3}{(2^3 2^2)^3}$ .ז.
$\frac{(3^2)^7 5^{10} (5^3)^2}{3^9 5^{16}}$ .יב.	$\frac{(3^2)^6 5^{31} 3^7}{(5^2)^{10} 5^{11} 3^{18}}$ .יא.	$\frac{(2^4)^5 (3^6)^7 2^{20}}{3^{35} 2^{40}}$ .י.

(6) לפניך הביטויים הבאים:  $\left( (3^2)^3 \right)^4$  ו-  $\left( (3^6)^n \right)^2$ .

מצא  $n$  כך שיתקיים שוויון בין שני הביטויים.

(7) חשב ללא מחשבון את הביטויים הבאים:

$\frac{7^{12} 2^2 2^6}{2^5 7^{10} 7}$ .ג.	$\frac{5^{20} 3^{14} 3^8}{3^{20} 5^{12} 5^8}$ .ב.	$\frac{2^3 3^5}{2^2 3^4}$ .א.
---	---	-------------------------------

(8) פשט את הביטויים הבאים:

$125 \cdot 25 \cdot 5^5$ .ג.	$64^2 2^3 8^2$ .ב.	$3^2 9 \cdot 81^2$ .א.
$\frac{\left( (3^4)^4 \right)^5}{81^3 27^4 3^5}$ .ו.	$\frac{(4^2)^3 16}{64 \cdot 2^3}$ .ה.	$\frac{2^4 \cdot 16^5}{8 \cdot 512}$ .ד.

9 פשט את הביטויים הבאים :

$$\begin{array}{ll} \text{א.} & \frac{(2a^2b)^3 \cdot (ab^{-3})^2}{4ab^{-2} \cdot \left(\frac{a^2}{b}\right)^4} \\ \text{ב.} & \frac{(k^2)^{m+2} \cdot k^{1-3m}}{(k^{2m})^3 \cdot \frac{1}{k^{7m-4}}} \\ \text{ג.} & \frac{4^{b+3}}{4^{b+1} + 4^{b+2}} \\ \text{ד.} & \frac{1}{x^2} \cdot \frac{x^{n+3} + x^{n+5}}{x^{n+2}} \end{array}$$

10 פשט את הביטויים הבאים בעזרת החוקים:  $(ab)^n = a^n b^n$  ו-  $\left(\frac{a}{b}\right)^n = \frac{a^n}{b^n}$

$$\begin{array}{lll} \text{א.} & (a^2b)^3 & \text{ב.} & (m^4n^3)^5 & \text{ג.} & (x^{12}y^3)^3 \\ \text{ד.} & \left(\frac{a^3}{b^2}\right)^4 & \text{ה.} & \left(\frac{i^4}{k^3}\right)^7 & \text{ו.} & \left(\frac{a^{14}b^4}{a^6ab^3}\right)^3 \\ \text{ז.} & \left(\frac{x^3y^5y^2x^6}{y^4x^7}\right)^6 & \text{ח.} & \left(\frac{t^7r^{20}t^3}{r^2r^{12}t^8}\right)^2 & \text{ט.} & \left(\frac{(b^{12}c)^2c^{14}}{c(c^3b^5)^4b^3}\right)^2 \end{array}$$

11 חשב ללא מחשבון את הביטויים הבאים :

$$\begin{array}{lll} \text{א.} & \left(\frac{3^9 2^6 2^2}{3^6 2^5 3^2}\right)^2 & \text{ב.} & \left(\frac{(5^4)^2 3^6}{3^5 5^7}\right)^2 & \text{ג.} & \left(\frac{7^3 \cdot 16 \cdot 128 \cdot 49}{(2^2 7)^5}\right)^3 \end{array}$$

12 בטא את הביטויים הבאים מחדש בעזרת שימוש בחזקה שלילית :

$$\begin{array}{lll} \text{א.} & \frac{1}{4^6} & \text{ב.} & \frac{1}{5^3} & \text{ג.} & \frac{1}{2^{10}} \\ \text{ד.} & \frac{1}{8} & \text{ה.} & \frac{1}{81} & \text{ו.} & \frac{1}{125} \end{array}$$

13 בטא את הביטויים הבאים מחדש בעזרת שימוש בחזקה חיובית וחשב את ערכם :

$$\begin{array}{lll} \text{א.} & \frac{1}{4^{-3}} & \text{ב.} & \frac{1}{3^{-2}} & \text{ג.} & \frac{1}{5^{-3}} \end{array}$$

14) חשב את הביטויים הבאים :

ג.  $5^6 \cdot 5^{-3} \cdot 5^{-2}$

ב.  $2^{-8} \cdot 512 \cdot 2^2$

א.  $3^2 \cdot 3^{-5} \cdot 3^7$

ו.  $\frac{3^{-6} \cdot 7^7 \cdot 7^{-4}}{3^{-4} \cdot 3^{-3} \cdot 7^3}$

ה.  $\frac{2^{-5} \cdot 5^3 \cdot 2^{14}}{5^2 \cdot 5^{-10} \cdot 5^8 \cdot 2^6}$

ד.  $2^{14} \cdot 3^{-6} \cdot 2^{16} \cdot 3^4 \cdot 2^{-30}$

15) פשט את הביטויים הבאים לצורה ללא חזקות שליליות.

ג.  $\frac{2^{-3} 5^4}{5^4 \cdot 125 \cdot (5^2 2)^{-3} \cdot 2^{-4}}$

ב.  $\frac{(4^4)^{-4} 3^{-11}}{(3^{-2} 4^3)^{-6}}$

א.  $\left(\frac{5^{-4}}{3^2}\right)^{-6}$

16) פשט את הביטויים הבאים :

ג.  $\frac{(m^{n+2})^3 \cdot m^{-4n-2}}{\frac{1}{m^{6n+2}} \cdot (m^3)^{n-2}}$

ב.  $\frac{(k^2)^{m+2} \cdot k^{1-3m}}{(k^{2m})^3 \cdot \frac{1}{k^{7m-4}}}$

א.  $\frac{a^{n+2} \cdot a^{2-3n}}{(a^3)^{n+1}}$

## תשובות סופיות:

- (1) א.  $a^8$     ב.  $t^{15}$     ג.  $b^{22}$     ד.  $k^5$     ה.  $n^5$     ו.  $c^4$
- ז.  $a^7$     ח.  $x^3$     ט. 1    י.  $3^9$     יא.  $2^8$     יב.  $5^5$
- (2) א. 18    ב.  $ab$     ג.  $x^6 y^{10}$
- (3)  $n=16$
- (4) א. 2    ב.  $\frac{1}{3}$     ג.  $\frac{5}{8}$     ד. 40
- (5) א.  $a^8$     ב.  $c^{30}$     ג.  $x^{26}$     ד.  $b$     ה.  $n^3$     ו.  $d^{10}$
- ז. 2    ח. 9    ט.  $8^{18}$     י.  $3^7$     יא. 3    יב.  $3^5$
- (6)  $n=2$
- (7) א. 6    ב. 9    ג. 56
- (8) א.  $3^{12}$     ב.  $2^{21}$     ג.  $5^{10}$     ד.  $2^{12}$     ה.  $2^7$     ו.  $3^{51}$
- (9) א.  $\frac{2b^3}{a}$     ב.  $k$     ג.  $3\frac{1}{5}$     ד.  $\frac{1}{x} + x$
- (10) א.  $a^6 b^3$     ב.  $m^{20} n^{15}$     ג.  $x^{36} y^9$     ד.  $\frac{a^{12}}{b^8}$     ה.  $\frac{i^{28}}{k^{21}}$     ו.  $a^{21} b^3$
- ז.  $x^{12} y^{18}$     ח.  $t^4 r^{12}$     ט.  $b^2 c^6$
- (11) א. 576    ב. 225    ג. 8
- (12) א.  $4^{-6}$     ב.  $5^{-3}$     ג.  $2^{-10}$     ד.  $2^{-3}$     ה.  $3^{-4}$     ו.  $5^{-3}$
- (13) א. 64    ב. 9    ג. 125
- (14) א. 81    ב. 8    ג. 5    ד.  $\frac{1}{9}$     ה. 1000    ו. 3
- (15) א.  $5^{24} \cdot 3^{12}$     ב.  $\frac{4^2}{3^{23}}$     ג.  $5^3 \cdot 2^4$
- (16) א.  $a^{1-5n}$     ב.  $k$     ג.  $m^{2n+12}$

## חוקי השורשים:

סיכום כללי:

סיכום חוקי השורשים:

$$\begin{array}{lll}
 \sqrt[n]{a^n} = a^{\frac{n}{n}} & .3 & \sqrt[n]{a} = a^{\frac{1}{n}} & .2 & \sqrt{a} = a^{\frac{1}{2}} & .1 \\
 \sqrt[n]{\sqrt[m]{a}} = \sqrt[n \cdot m]{a} & .6 & \sqrt[m]{\frac{a}{b}} = \frac{\sqrt[m]{a}}{\sqrt[m]{b}} & .5 & \sqrt[n]{a} \cdot \sqrt[n]{b} = \sqrt[n]{a \cdot b} & .4
 \end{array}$$

שאלות:

17) הבא את הביטויים הבאים לצורה:  $\sqrt[n]{a^m}$ .

$$\begin{array}{lll}
 \text{א. } 3^{\frac{1}{4}} & \text{ב. } 2^{\frac{3}{5}} & \text{ג. } 6^{\frac{5}{6}} \\
 \text{ד. } -12^{\frac{2}{7}} & \text{ה. } -(-4)^{\frac{1}{3}} & \text{ו. } -(-3)^{\frac{3}{4}} \\
 \text{ז. } 5^{-\frac{1}{4}} & \text{ח. } 27^{\frac{1}{3}} & \text{ט. } 64^{-\frac{5}{6}}
 \end{array}$$

18) חשב ללא מחשבון את ערכם של הביטויים הבאים:

$$\begin{array}{lll}
 \text{א. } \sqrt{49} & \text{ב. } -\sqrt{25} & \text{ג. } \sqrt[3]{8} \\
 \text{ד. } -\sqrt[3]{128} & \text{ה. } \sqrt[3]{(-2)^6} & \text{ו. } (\sqrt[5]{1024})^2 \\
 \text{ז. } (\sqrt[5]{-243})^3 & \text{ח. } \sqrt[4]{-16} & \text{ט. } \sqrt[4]{-25^2} \\
 \text{י. } \sqrt[4]{(-25)^2} & &
 \end{array}$$

19) חשב ללא מחשבון את ערכם של הביטויים הבאים :

ג.  $128^{\frac{2}{7}}$

ב.  $32^{\frac{3}{5}}$

א.  $8^{\frac{2}{3}}$

ו.  $\left(\frac{64}{343}\right)^{\frac{2}{3}}$

ה.  $\left(2\frac{1}{4}\right)^{-2.5}$

ד.  $\left(\frac{1}{25}\right)^{-1.5}$

ט.  $16^{\frac{1}{4}} \cdot 8^{\frac{1}{3}} \cdot 4^{\frac{1}{2}}$

ח.  $343^{\frac{2}{3}} \cdot 100^{\frac{1}{2}}$

ז.  $81^{\frac{3}{4}} \cdot 64^{\frac{1}{3}}$

20) חשב ללא מחשבון את ערך הביטוי הבא :  $\frac{\sqrt[5]{2^2} \cdot \sqrt{8}}{\sqrt[3]{128}}$

21) פשט את הביטויים הבאים :

ג.  $\sqrt{4} \cdot \sqrt{5} \cdot \sqrt{20}$

ב.  $\sqrt{3} \cdot \sqrt{27}$

א.  $\sqrt{2} \cdot \sqrt{8}$

ו.  $\frac{\sqrt[5]{96}}{\sqrt[5]{3}}$

ה.  $\frac{\sqrt[3]{81}}{\sqrt[3]{3}}$

ד.  $\frac{\sqrt{72}}{\sqrt{2}}$

ט.  $\frac{\sqrt[3]{8^2} \sqrt[4]{25}}{\sqrt[4]{400} \sqrt{2}}$

ח.  $\frac{\sqrt[3]{500} \cdot \sqrt{5}}{\sqrt[4]{25^2} \cdot \sqrt[3]{4}}$

ז.  $\frac{\sqrt[5]{2^2} \cdot \sqrt{8}}{\sqrt[5]{128}}$

22) הכנס לתוך שורש את המספרים החופשיים :

ג.  $\frac{\sqrt{36}}{2}$

ב.  $5\sqrt{3}$

א.  $3\sqrt{2}$

ה.  $x\sqrt{x}$

ד.  $2\sqrt[3]{3}$

23) הכנס את כל המקדמים בביטויים הבאים לתוך השורש :

ג.  $2\sqrt[5]{3}$

ב.  $4\sqrt[3]{2}$

א.  $2\sqrt{5}$

ו.  $\frac{3\sqrt[4]{5000}}{10}$

ה.  $\frac{\sqrt[3]{24}}{2}$

ד.  $\frac{\sqrt{24}}{2}$

ט.  $-5\sqrt{-2}$

ח.  $-5\sqrt[4]{2}$

ז.  $-5\sqrt[3]{2}$

24) הוצא מהשורש את הכופל הגדול ביותר :

- א.  $\sqrt{12}$       ב.  $\sqrt{48}$       ג.  $\sqrt{63}$
- ד.  $\sqrt[3]{54}$       ה.  $\sqrt{x^5}$

25) חלץ מן הביטויים הבאים את המקדם הגבוה ביותר ככל הניתן :

- א.  $\sqrt{40}$       ב.  $\sqrt{50}$       ג.  $\sqrt{320}$
- ד.  $\sqrt[3]{108}$       ה.  $\sqrt[3]{56}$       ו.  $\sqrt[3]{160}$
- ז.  $\sqrt[4]{162}$       ח.  $\sqrt[5]{972}$       ט.  $\sqrt[9]{192}$

26) פשט את הביטויים הבאים :

- א.  $\sqrt{18} - \sqrt{8}$       ב.  $\sqrt{7} + \sqrt{63}$       ג.  $\sqrt[3]{16} + \sqrt[3]{128}$
- ד.  $\sqrt[4]{405} - \sqrt[4]{80}$       ה.  $\frac{20}{\sqrt{5}}$       ו.  $\frac{\sqrt{8}}{2}$
- ז.  $\frac{16}{\sqrt{2}}$       ח.  $\frac{6}{\sqrt{3} + \sqrt{12}}$       ט.  $\frac{10}{\sqrt[5]{160} - \sqrt[5]{5}}$

27) פשט את הביטויים הבאים :

- א.  $3^{\frac{1}{4}} \cdot 9^{-2.5} \cdot 27^{\frac{3}{2}}$       ב.  $2^{\frac{3}{4}} \cdot 16^{\frac{1}{2}} \cdot 64^{-3}$       ג.  $125^{\frac{1}{6}} \cdot 5^2 \cdot 5^{-\frac{2}{3}}$
- ד.  $\frac{27^{\frac{4}{3}} \cdot 3^{-\frac{2}{3}}}{9^{\frac{1}{6}}}$       ה.  $\frac{49^{\frac{2}{5}} \cdot 7^{-\frac{6}{5}}}{343^{\frac{1}{5}}}$       ו.  $\frac{512^{\frac{1}{4}} \cdot 64^{\frac{3}{4}}}{128^{\frac{1}{8}} \cdot 2^{-2}}$

## תשובות סופיות:

- (17) א.  $\sqrt[4]{3}$     ב.  $\sqrt[5]{2^3}$     ג.  $\sqrt[6]{6^5}$     ד.  $-\sqrt[7]{12^2}$     ה.  $-\sqrt[3]{-4}$     ו.  $\phi$
- ז.  $\frac{1}{\sqrt[4]{5}}$     ח.  $\frac{1}{\sqrt[3]{27}}$  או  $\frac{1}{3}$     ט.  $\frac{1}{\sqrt[6]{64^5}}$  או  $\frac{1}{2^5}$
- (18) א. 7    ב. -5    ג. 2    ד. -2    ה. 4    ו. 16
- ז. -27    ח.  $\phi$     ט.  $\phi$     י. 5
- (19) א. 4    ב.  $\frac{1}{8}$     ג.  $\frac{1}{4}$     ד. 125    ה.  $\frac{32}{243}$     ו.  $\frac{49}{16}$
- ז.  $\frac{27}{4}$     ח.  $\frac{10}{49}$     ט.  $\frac{1}{2}$
- (20)  $\sqrt{2}$
- (21) א. 4    ב. 9    ג. 20    ד. 6    ה. 3    ו. 2
- ז.  $\sqrt{2}$     ח.  $\sqrt{5}$     ט.  $\sqrt{2}$
- (22) א.  $\sqrt{18}$     ב.  $\sqrt{75}$     ג.  $\sqrt{9}$     ד.  $\sqrt[3]{24}$     ה.  $\sqrt{x^3}$
- (23) א.  $\sqrt{20}$     ב.  $\sqrt[3]{128}$     ג.  $\sqrt[5]{96}$     ד.  $\sqrt{6}$     ה.  $\sqrt[3]{3}$
- ו.  $\sqrt[4]{40\frac{1}{2}}$     ז.  $\sqrt[3]{-250}$     ח.  $-\sqrt[4]{1250}$     ט.  $\sqrt[5]{5^5 \cdot 2}$
- (24) א.  $2\sqrt{3}$     ב.  $4\sqrt{3}$     ג.  $3\sqrt{7}$     ד.  $3\sqrt[3]{2}$     ה.  $x^2\sqrt{x}$
- (25) א.  $2\sqrt{10}$     ב.  $5\sqrt{2}$     ג.  $8\sqrt{5}$     ד.  $3\sqrt[3]{4}$     ה.  $2\sqrt[3]{7}$     ו.  $2\sqrt[5]{5}$
- ז.  $3\sqrt[4]{2}$     ח.  $3\sqrt[5]{4}$     ט.  $2\sqrt[6]{3}$
- (26) א.  $\sqrt{2}$     ב.  $4\sqrt{7}$     ג.  $6\sqrt[3]{2}$     ד.  $\sqrt[4]{5}$     ה.  $4\sqrt{5}$     ו.  $\sqrt{2}$
- ז.  $8\sqrt{2}$     ח.  $\frac{2}{\sqrt{3}}$  או  $\frac{2\sqrt{3}}{3}$     ט.  $\frac{10}{\sqrt[3]{5}}$  או  $2\sqrt[5]{5^4}$
- (27) א.  $\frac{1}{\sqrt[4]{3}}$     ב.  $\frac{1}{\sqrt[4]{2^{61}}}$     ג.  $\sqrt[6]{5^{11}}$     ד. 27    ה.  $\frac{1}{7}$     ו.  $\sqrt[8]{2^5}$

## כתיבה מדעית של מספרים:

### שאלות:

28) בטא את המספרים הבאים בכתיב מדעי:

א. 15,000,000	ב. 1,500,000
ג. 150,000,000,000	ד. 23,400,000
ה. 0.0003	ו. 0.00000042
ז. 0.000000042	ח. 0.00000000042

29) בטא את המספרים הבאים בכתיב מדעי:

א. $(3,000,000)^2$	ב. $(2,000,000)^2$
ג. $(5,000)^3$	ד. $(50,000)^3$
ה. $(0.0002)^4$	ו. $(0.00004)^3$
ז. $(0.000005)^3$	ח. $(0.000000007)^3$

### תשובות סופיות:

28) א. $1.5 \cdot 10^7$	ב. $1.5 \cdot 10^6$	ג. $1.5 \cdot 10^{11}$	ד. $2.34 \cdot 10^7$	ה. $3 \cdot 10^{-4}$
ו. $4.2 \cdot 10^{-7}$	ז. $4.2 \cdot 10^{-8}$	ח. $4.2 \cdot 10^{-10}$		
29) א. $9 \cdot 10^{12}$	ב. $4 \cdot 10^{12}$	ג. $1.25 \cdot 10^{11}$	ד. $1.25 \cdot 10^{14}$	ה. $1.6 \cdot 10^{-15}$
ו. $6.4 \cdot 10^{-14}$	ז. $1.25 \cdot 10^{-16}$	ח. $3.43 \cdot 10^{-25}$		

# מבוא לשיטות כמותיות בניהול

פרק 5 - משוואות ואי-שוויונים מעריכיים

תוכן העניינים

1. משוואות מעריכיות יסודיות ..... (ללא ספר)
2. משוואות עם חיבור וחסור איברים ..... (ללא ספר)
3. משוואות מסכמות שונות ..... (ללא ספר)
4. משוואות עם קבוע אוילר ..... (ללא ספר)
5. מערכת משוואות מעריכיות ..... (ללא ספר)
6. אי-שוויונים מעריכיים ..... (ללא ספר)

# מבוא לשיטות כמותיות בניהול

פרק 6 - חוקי הלוגריתמים, משוואות ואי-שוויונים לוגריתמיים

תוכן העניינים

1. הגדרת הלוגריתם ומשוואות יסודיות ..... (ללא ספר)
2. חוקי הלוגריתמים ..... (ללא ספר)
3. חישובים עם חזקה לוגריתמית ..... (ללא ספר)
4. מעבר בין בסיסים ..... (ללא ספר)
5. הלוגריתם הטבעי ..... (ללא ספר)
6. משוואות עם בסיסים שונים ..... (ללא ספר)
7. מערכת משוואות לוגריתמיות ..... (ללא ספר)
8. מערכת משוואות לוגריתמיות ומעריכיות ..... (ללא ספר)
9. אי-שוויונים לוגריתמיים ..... (ללא ספר)

# מבוא לשיטות כמותיות בניהול

פרק 7 - טריגונומטריה במשולש ישר זווית

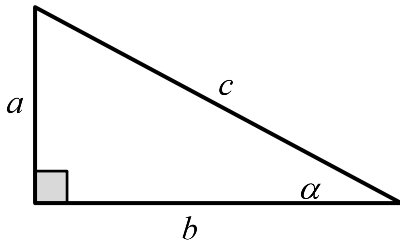
תוכן העניינים

83 ..... 1. משולש ישר זווית

## משולש ישר זווית:

### סיכום כללי:

#### הגדרות הפונקציות הטריגונומטריות:



$$\sin \alpha = \frac{\text{הניצב שמול הזווית}}{\text{היתר}} = \frac{a}{c}$$

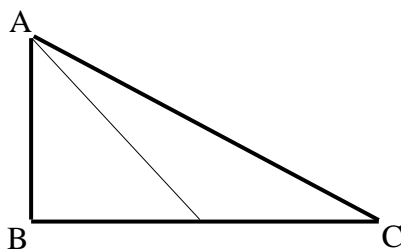
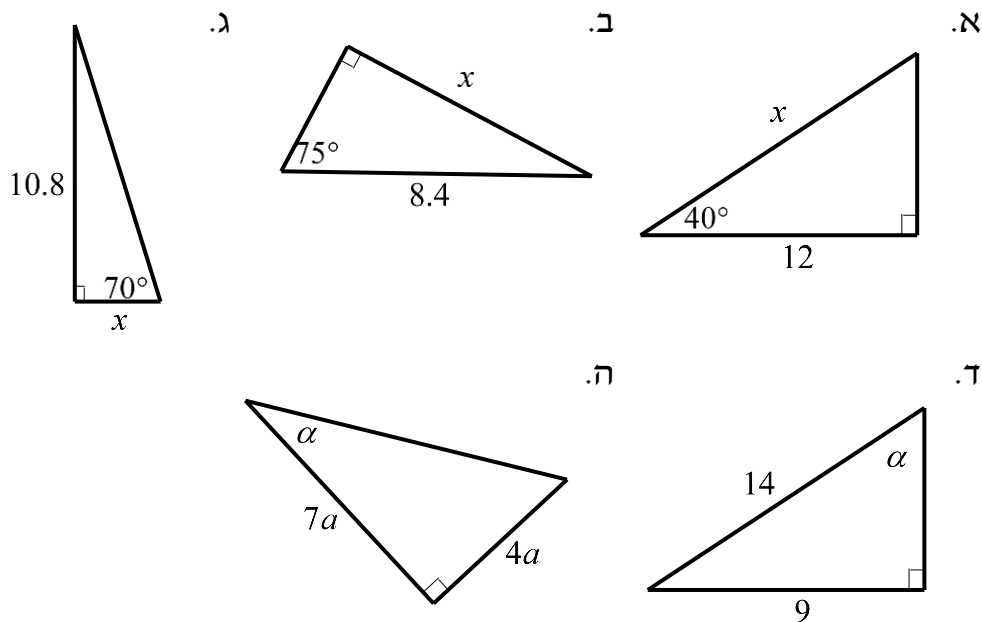
$$\cos \alpha = \frac{\text{הניצב שליד הזווית}}{\text{היתר}} = \frac{b}{c}$$

$$\tan \alpha = \frac{\text{הניצב שמול הזווית}}{\text{הניצב שליד הזווית}} = \frac{a}{b}$$

$$a^2 + b^2 = c^2: \text{משפט פיתגורס}$$

### שאלות:

1) מצא את ערכו של  $\alpha/x$  במשולשים ישרי הזווית הבאים:



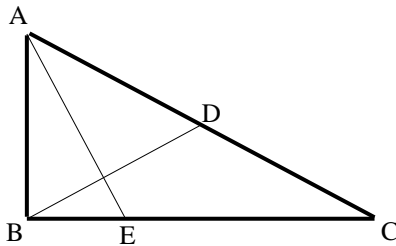
2) המשולש ABC שבציור הוא משולש

ישר זווית ( $\sphericalangle B = 90^\circ$ ).

AD הוא התיכון לניצב BC.

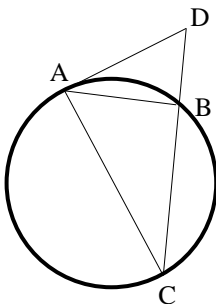
נתון:  $\sphericalangle C = 28^\circ$ ,  $AB = 6$  ס"מ.

מצא את AD ואת  $\sphericalangle BAD$ .



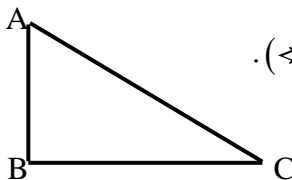
- (3) המשולש ABC שבציור הוא משולש ישר זווית ( $\angle B = 90^\circ$ ). BD הוא התיכון ליתר ו-AE הוא חוצה הזווית  $\angle A$ . נתון:  $BC = 8$  ס"מ,  $BD = 5.6$  ס"מ. מצא את BE ואת  $\angle BAE$ .

- (4) מצא את זוויותיו של מעוין שאורכי אלכסונו 24 ס"מ ו-18 ס"מ.

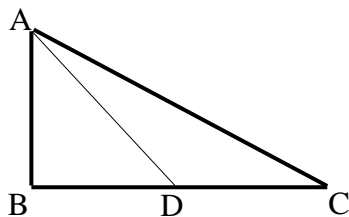


- (5) המשולש ABC חסום במעגל כך שהצלע AC היא קוטר המעגל. המשיק למעגל בנקודה A והמשך הצלע CB נפגשים בנקודה D. נתון:  $\angle DAB = 32^\circ$ ,  $BD = 4$  ס"מ. מצא את אורכו של רדיוס המעגל.

- (6) במשולש שווה שוקיים שבו השוק ארוכה ב-4 ס"מ מהבסיס נתון כי זווית הראש היא  $34.92^\circ$ . מצא את שטח המשולש.

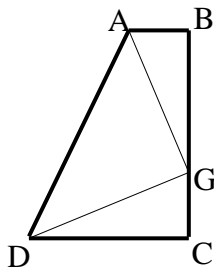


- (7) המשולש ABC שבציור הוא משולש ישר זווית ( $\angle B = 90^\circ$ ). נתון:  $AB = a$ ,  $\angle A = \alpha$ . הבע באמצעות  $\alpha$  ו- $a$  את היקף המשולש.

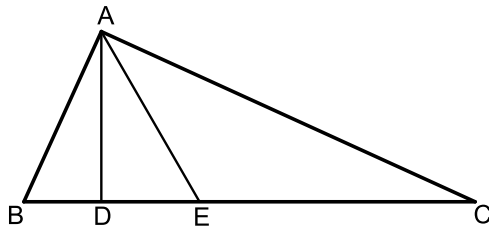


- (8) המשולש ABC שבציור הוא משולש ישר זווית ( $\angle B = 90^\circ$ ). AD הוא התיכון לניצב BC. נתון:  $AB = b$ ,  $\angle C = \alpha$ . הבע באמצעות  $\alpha$  ו- $b$  את אורכי הקטעים AD ו-BD.

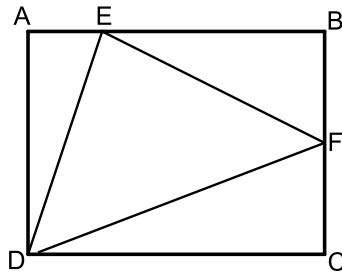
- (9) במשולש ישר זווית אחת הזוויות החדות היא  $\alpha$  ואורך חוצה הזווית זו הוא  $k$ . הבע באמצעות  $\alpha$  ו- $k$  את שטח המשולש ואת אורך היתר.



- 10** טרפז ABCD הוא טרפז ישר זווית ( $\angle B = \angle C = 90^\circ$ ).  
 הנקודה G נמצאת על השוק BC כך ש-  $AG \perp DG$ .  
 נתון:  $\angle BAG = \beta$ ,  $AG = DG = m$ .  
 הבע באמצעות  $\beta$  ו-  $m$  את שטח הטרפז.



- 11** המשולש ABC הוא ישר זווית ( $\angle A = 90^\circ$ ).  
 הקטעים AD ו- AE הם בהתאמה גובה ליתר וחוצה זווית.  
 מסמנים:  $\angle DAE = \alpha$ ,  $DE = k$ .  
 א. הבע באמצעות  $k$  ו-  $\alpha$  את שטח המשולש ABC.  
 ב. חשב את שטח המשולש ABC אם ידוע כי:  $\alpha = 30^\circ$  ו-  $k = 2$ .

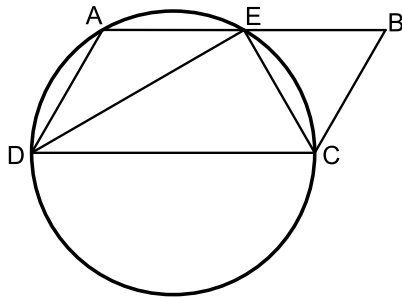


- 12** במלבן ABCD מסמנים את הנקודות E ו- F הנמצאות על הצלעות AB ו- BC בהתאמה כך ש- E מקיימת:  $3AE = BE$  ו- F היא אמצע הצלע BC.  
 אורך הצלע AD שווה לאורך הקטע BE.  
 מעבירים את הקטעים EF, DF ו- DE כך שנוצר במשולש DEF.  
 א. סמן ב-  $t$  את אורך הקטע AE והבע באמצעות  $t$  את אורכי צלעות המשולש DEF.  
 ב. חשב את זוויות המשולש EDF.

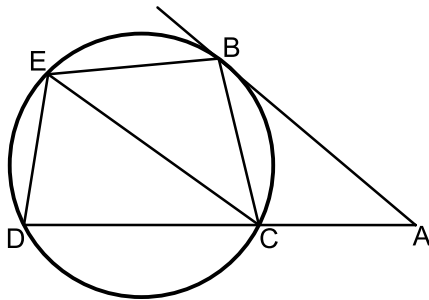
- 13** משולש שווה שוקיים שאורך שוקו  $k$  וזווית הבסיס שלו היא  $\beta$  חוסם מעגל. הבע באמצעות  $\beta$  ו-  $k$  את רדיוס המעגל.

- 14** בטרפז ישר זווית חסום מעגל. אורך השוק הארוכה בטרפז היא  $b$  והזווית שהיא יוצרת עם הבסיס הגדול היא  $\alpha$ . הבע באמצעות  $\alpha$  ו-  $b$  את אורכו של הבסיס הגדול בטרפז ואת שטחו.

הערה: השאלות הבאות משלבות ידע בגיאומטריה ובטריגונומטריה יחד:



- 15) דרך הקודקודים A, C ו-D של המקבילית ABCD מעבירים מעגל. היקף המעגל חוצה את הצלע AB בנקודה E,  $(AE = BE)$ . נתון כי DC הוא קוטר במעגל וכי המיתר DE חוצה את זווית D.
- הוכח כי המיתר CE חוצה את זוויות C.
  - רדיוס המעגל יסומן ב-R. הבע באמצעות R את היקף המקבילית.
  - מצא את רדיוס המעגל אם ידוע כי שטח המקבילית הוא  $16\sqrt{3}$  סמ"ר.



- 16) מהנקודה A שמחוץ למעגל מעבירים משיק AB וישר חותך ACD. מעבירים את המיתרים BC ו-BE אשר זהים באורכם. כמו כן מעבירים את המיתר DE. אורך המיתר CE שונה מאורך המשיק AB.
- הוכח כי המרובע ABEC הוא טרפז.
  - הוכח כי:  $\angle BEC = 2 \cdot \angle EDC$ .
  - נתונים:  $\angle A = 40^\circ$ ,  $AC = 6$  ס"מ,  $AB = 9$  ס"מ,  $CE = 8$  ס"מ. חשב את שטח המרובע ABEC.

## תשובות סופיות:

$$(1) \quad \text{א. } x = 15.665 \quad \text{ב. } x = 8.114 \quad \text{ג. } x = 3.931 \quad \text{ד. } \alpha = 40.005^\circ \quad \text{ה. } \alpha = 29.745^\circ$$

$$(2) \quad AD = 8.236 \text{ ס"מ}, \quad \sphericalangle BAD = 43.24^\circ$$

$$(3) \quad BE = 3.294 \text{ ס"מ}, \quad \sphericalangle BAE = 22.792^\circ$$

$$(4) \quad 73.74^\circ, 73.74^\circ, 106.26^\circ, 106.26^\circ$$

$$(5) \quad R = 6.04 \text{ ס"מ}$$

$$(6) \quad S = 28.618 \text{ סמ"ר}$$

$$(7) \quad P = a \left( 1 + \tan \alpha + \frac{1}{\cos \alpha} \right)$$

$$(8) \quad AD = \sqrt{b^2 + \frac{b^2}{4 \tan^2 \alpha}}, \quad BD = \frac{b}{2 \tan \alpha}$$

$$(9) \quad AC = \frac{k \cos \frac{\alpha}{2}}{\cos \alpha}, \quad S = \frac{k^2 \cos^2 \frac{\alpha}{2} \tan \alpha}{2}$$

$$(10) \quad \frac{(m \sin \beta + m \cos \beta)^2}{2}$$

$$(11) \quad \text{א. } S = \frac{k^2}{\cos 2\alpha \tan^2 \alpha} \quad \text{ב. } 24 \text{ סמ"ר}$$

$$(12) \quad \text{א. } DE = t\sqrt{10}, \quad EF = t\sqrt{11.25}, \quad DF = t\sqrt{18.25} \quad \text{ב. } 81.86^\circ, 51^\circ, 47.14^\circ$$

$$(13) \quad R = k \cos \beta \tan \frac{\beta}{2}$$

$$(14) \quad \frac{1}{2} b \sin \alpha + \frac{\frac{1}{2} b \sin \alpha}{\tan \frac{\alpha}{2}}, \quad S = \frac{1}{2} b^2 \sin \alpha (1 + \sin \alpha)$$

$$(15) \quad \text{א. שאלת הוכחה.} \quad \text{ב. } 6R \quad \text{ג. } 4 \text{ ס"מ}$$

$$(16) \quad \text{א. שאלת הוכחה.} \quad \text{ב. שאלת הוכחה.} \quad \text{ג. } 32.78 \text{ סמ"ר}$$

# מבוא לשיטות כמותיות בניהול

פרק 8 - זהויות טריגונומטריות

תוכן העניינים

88	1. זהויות יסוד
92	2. ערכי הפונקציות הטריגונומטריות עבור זוויות מיוחדות
94	3. מעגל היחידה
97	4. סכום והפרש זוויות
101	5. זווית כפולה
104	6. סכום והפרש פונקציות
107	7. מכפלת פונקציות

## זהויות יסוד:

### סיכום כללי:

$\sin^2 \alpha + \cos^2 \alpha = 1$ $\tan \alpha \cdot \cot \alpha = 1$	$\tan \alpha = \frac{\sin \alpha}{\cos \alpha}$ , $\cot \alpha = \frac{\cos \alpha}{\sin \alpha}$	קשרים בין פונקציות
$\sin \alpha = \cos(90^\circ - \alpha)$	$\cos \alpha = \sin(90^\circ - \alpha)$	זוויות משלימות ל- $90^\circ$
$\tan \alpha = \cot(90^\circ - \alpha)$	$\cot \alpha = \tan(90^\circ - \alpha)$	
$\tan^2 \alpha + 1 = \frac{1}{\cos^2 \alpha}$	$\cot^2 \alpha + 1 = \frac{1}{\sin^2 \alpha}$	קשרים בין פונקציות

### שאלות:

#### הוכחת זהויות יסודיות:

הוכח את הזהויות הבאות תוך שימוש בזהויות היסוד:

$$\frac{1 - \sin^2 \alpha}{\cos^2 \alpha} = 1 \quad (2)$$

$$\sin^2 \alpha + 2 \cos^2 \alpha = 1 + \cos^2 \alpha \quad (4)$$

$$(\sin \alpha + \cos \alpha)^2 + (\sin \alpha - \cos \alpha)^2 = 2 \quad (6)$$

$$\sin^2(\alpha + 45^\circ) + \sin^2(45^\circ - \alpha) = 1 \quad (8)$$

$$\frac{\sin \alpha (1 - \cos^2 \alpha)}{\cos^3 \alpha} = \tan^3 \alpha \quad (10)$$

$$\cos^2 \alpha (1 + \tan^2 \alpha) = 1 \quad (12)$$

$$\frac{\sin^3 \alpha}{\sin(90^\circ - \alpha) - \cos^3 \alpha} = \tan \alpha \quad (14)$$

$$\frac{1 - 2 \sin^2 \alpha \cos^2 \alpha}{\sin^2 \alpha \cdot \cos^2 \alpha} = \tan^2 \alpha + \cot^2 \alpha \quad (16)$$

$$\tan \alpha \cdot \cos \alpha = \sin \alpha \quad (1)$$

$$\frac{\sin \alpha}{\sqrt{1 - \sin^2 \alpha}} = \tan \alpha \quad (3)$$

$$\frac{\sin^2 \alpha}{1 + \cos \alpha} + \frac{\sin^2 \alpha}{1 - \cos \alpha} = 2 \quad (5)$$

$$\frac{\cos(90^\circ - \alpha)}{\cos \alpha} = \tan \alpha \quad (7)$$

$$\sqrt{1 + \tan^2 \alpha} \cdot \sqrt{1 - \cos^2 \alpha} = \tan \alpha \quad (9)$$

$$\frac{\sin(90^\circ - \alpha) - \cos^3 \alpha}{\sin^3 \alpha} = \cot \alpha \quad (11)$$

$$\frac{\sin \alpha \cdot \cos \alpha}{1 - \cos^2 \alpha} = \cot \alpha \quad (13)$$

$$\tan^2 \alpha - \sin^2 \alpha = \tan^2 \alpha \sin^2 \alpha \quad (15)$$

## הוכחות מתקדמות:

$$(17) \quad \frac{1 + \cos \alpha}{1 - \cos \alpha} + \frac{1 - \cos \alpha}{1 + \cos \alpha} = 2 + 4 \cot^2 \alpha \quad \text{הוכח את הזהות הבאה:}$$

$$(18) \quad \frac{1 + \tan \alpha}{1 - \tan \alpha} + \frac{1 - \tan \alpha}{1 + \tan \alpha} = \frac{2}{\cos^2 \alpha - \sin^2 \alpha} \quad \text{הוכח את הזהות הבאה:}$$

$$(19) \quad (\cot \alpha - \tan \alpha)(\cot \alpha + \tan \alpha) = (1 + \cot^2 \alpha)(1 + \tan^2 \alpha) \quad \text{הוכח את הזהות הבאה:}$$

$$(20) \quad \frac{\sin^4 \alpha + \cos^2 \alpha - \sin^2 \alpha}{\cos^4 \alpha + \sin^2 \alpha - \cos^2 \alpha} = \cot^4 \alpha \quad \text{הוכח את הזהות הבאה:}$$

$$(21) \quad 1 - \sin^2 \alpha (1 + \cos^2 \alpha) = \cos^4 \alpha \quad \text{הוכח את הזהות הבאה:}$$

$$(22) \quad \left( \sqrt{\frac{1 + \cos \alpha}{1 - \cos \alpha}} + \sqrt{\frac{1 - \cos \alpha}{1 + \cos \alpha}} \right)^2 = 4 + 4 \cot^2 \alpha \quad \text{הוכח את הזהות הבאה:}$$

$$(23) \quad \sin^2 \alpha \cos^2 \beta - \sin^2 \beta \cos^2 \alpha = \sin^2 \alpha - \sin^2 \beta \quad \text{הוכח את הזהות הבאה:}$$

$$(24) \quad \frac{\tan \alpha + \tan \beta}{\cot \alpha + \cot \beta} = \tan \alpha \tan \beta \quad \text{הוכח את הזהות הבאה:}$$

## הבעת ביטויים וחישובים באמצעות זהויות יסוד:

$$(25) \quad \text{נתון כי: } \sin \alpha + \cos \alpha = k$$

הבע באמצעות  $k$  את ערכי הביטויים הבאים:

א.  $\sin \alpha \cdot \cos \alpha$

ב.  $\sin \alpha - \cos \alpha$

ג.  $\tan \alpha + \cot \alpha$

ד.  $\sin^3 \alpha + \cos^3 \alpha$

$$(26) \quad \text{נתון כי: } \sin \alpha = \frac{\sqrt{5}}{5}$$

מבלי למצוא את  $\alpha$  חשב את:  $\tan^2 \alpha - 2 \cot^2 \alpha$

(27) נתון כי:  $\tan \alpha = \sqrt{7}$ .

מבלי למצוא את  $\alpha$  חשב את:  $\frac{\sqrt{7} \sin \alpha + 6 \cos \alpha}{\sqrt{28} \sin \alpha - \cos \alpha}$ .

(28) חשב את ערך המכפלה הבאה:  $\tan 1^\circ \cdot \tan 2^\circ \cdot \tan 3^\circ \cdot \dots \cdot \tan 88^\circ \cdot \tan 89^\circ$ .

### תשובות סופיות:

- (1) שאלת הוכחה.
- (2) שאלת הוכחה.
- (3) שאלת הוכחה.
- (4) שאלת הוכחה.
- (5) שאלת הוכחה.
- (6) שאלת הוכחה.
- (7) שאלת הוכחה.
- (8) שאלת הוכחה.
- (9) שאלת הוכחה.
- (10) שאלת הוכחה.
- (11) שאלת הוכחה.
- (12) שאלת הוכחה.
- (13) שאלת הוכחה.
- (14) שאלת הוכחה.
- (15) שאלת הוכחה.
- (16) שאלת הוכחה.
- (17) שאלת הוכחה.
- (18) שאלת הוכחה.
- (19) שאלת הוכחה.
- (20) שאלת הוכחה.
- (21) שאלת הוכחה.
- (22) שאלת הוכחה.
- (23) שאלת הוכחה.
- (24) שאלת הוכחה.

$$(25) \quad \text{א. } \frac{k^2 - 1}{2} \quad \text{ב. } \pm\sqrt{2 - k^2} \quad \text{ג. } \frac{2}{k^2 - 1} \quad \text{ד. } \frac{k}{2}(3 - k^2)$$

$$(26) \quad -7.75$$

$$(27) \quad 1$$

$$(28) \quad 1$$

## ערכי הפונקציות הטריגונומטריות עבור זוויות מיוחדות:

סיכום כללי:

$\alpha = 90^\circ$	$\alpha = 60^\circ$	$\alpha = 45^\circ$	$\alpha = 30^\circ$	$\alpha = 0^\circ$	
1	$\frac{\sqrt{3}}{2}$	$\frac{\sqrt{2}}{2}$	$\frac{1}{2}$	0	$\sin \alpha$
0	$\frac{1}{2}$	$\frac{\sqrt{2}}{2}$	$\frac{\sqrt{3}}{2}$	1	$\cos \alpha$
$\phi$	$\sqrt{3}$	1	$\frac{\sqrt{3}}{3}$	0	$\tan \alpha$
0	$\frac{\sqrt{3}}{3}$	1	$\sqrt{3}$	$\phi$	$\cot \alpha$

הערות:

- ערכי הפונקציות הטריגונומטריות עבור זוויות של  $0^\circ$  ו- $90^\circ$  תלמדנה בהמשך אך ניתנו כעת כדי להשלים את תמונת ערכי הזוויות.
- ניתן לזכור את הטבלה ע"י כתיבה של שורת הסינוס לפי:  $\frac{\sqrt{4}}{2}, \frac{\sqrt{3}}{2}, \frac{\sqrt{2}}{2}, \frac{\sqrt{1}}{2}, \frac{\sqrt{0}}{2}$  אשר נותנים את הערכים של השורה הראשונה לאחר פישוט קל. עבור שורת ה- $\cos \alpha$  יש להפוך את הערכים ולבסוף יש לחלק כל זוג ביטויים כדי לכתוב את ערכי  $\tan \alpha$  ולסובב עבור ערכי  $\cot \alpha$ .

שאלות:

חשב ללא מחשבון את ערכי הביטויים הבאים תוך שימוש בערכי הפונקציות הטריגונומטריות של זוויות מיוחדות:

$$1) \sin 30^\circ + \cos 30^\circ$$

$$2) \frac{\sin 30^\circ \cdot \cos 30^\circ}{\sin 60^\circ}$$

$$3) \tan 45^\circ + \frac{\sin 45^\circ}{\cos 45^\circ}$$

$$\cdot \frac{1 + \cos 60^\circ}{2 \sin 60^\circ} \quad (4)$$

$$\cdot \cos^2 45^\circ + \sin^2 30^\circ \quad (5)$$

$$\cdot \frac{\tan^2 60^\circ \cdot \cos^2 30^\circ}{\cos^2 60^\circ} \quad (6)$$

$$\cdot \frac{\tan 30^\circ \cdot \cot 60^\circ - \cot 45^\circ \cdot \tan 45^\circ}{4 \left( \sin^2 60^\circ - \frac{1}{4} \right)} \quad (7)$$

$$\cdot \frac{27 \cot^4 60^\circ}{\sin 30^\circ \cdot \cos 45^\circ \cdot \tan 60^\circ} \quad (8)$$

### תשובות סופיות:

$$\frac{1 + \sqrt{3}}{2} \quad (1)$$

$$\frac{1}{2} \quad (2)$$

$$2 \quad (3)$$

$$\frac{3}{2\sqrt{3}} \quad (4)$$

$$\frac{3}{4} \quad (5)$$

$$9 \quad (6)$$

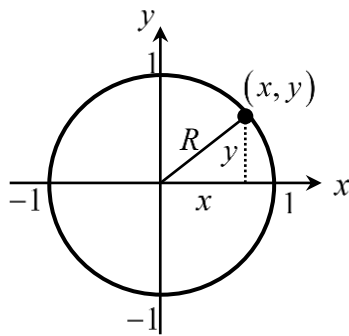
$$-\frac{1}{3} \quad (7)$$

$$2\sqrt{6} \quad (8)$$

## מעגל היחידה – הגדרה וזהויות:

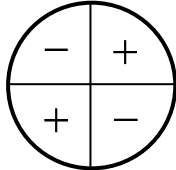
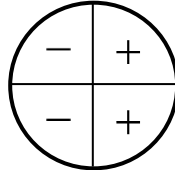
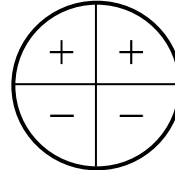
### סיכום כללי:

#### הגדרת מעגל היחידה:



- מעגל קנוני שרדיוסו 1 מוגדר להיות המעגל הטריגונומטרי.
- הנקודות  $(0, -1)$ ,  $(-1, 0)$ ,  $(0, 1)$ ,  $(1, 0)$  מתאימות לזוויות של  $270^\circ$ ,  $180^\circ$ ,  $90^\circ$ ,  $0^\circ$ .

#### הזהויות של המעגל הטריגונומטרי:

טנגנס	קוסינוס	סינוס	רביע
$\tan(180^\circ - \alpha) = -\tan \alpha$	$\cos(180^\circ - \alpha) = -\cos \alpha$	$\sin(180^\circ - \alpha) = \sin \alpha$	II
$\tan(180^\circ + \alpha) = \tan \alpha$	$\cos(180^\circ + \alpha) = -\cos \alpha$	$\sin(180^\circ + \alpha) = -\sin \alpha$	III
$\tan(-\alpha) = -\tan \alpha$	$\cos(-\alpha) = \cos \alpha$	$\sin(-\alpha) = -\sin \alpha$	VI
			סימנים

#### זהויות עבור זווית הגדולות מ-360 מעלות:

ניתן להוסיף או להוריד 'סיבובים' שלמים לזווית לפי:

$$\boxed{\sin(\alpha + 360^\circ k) = \sin \alpha} \quad \boxed{\tan(\alpha + 180^\circ k) = \tan \alpha}$$

$$\boxed{\cos(\alpha + 360^\circ k) = \cos \alpha} \quad \boxed{\cot(\alpha + 180^\circ k) = \cot \alpha}$$

כאשר  $k$  הוא מספר שלם מציין את מספר הסיבובים.

**שאלות:**

(1) העבר את הביטויים הבאים לביטויים עם זווית ברביע הראשון. אין צורך לחשב את ערך הביטוי:

א. $\sin 120^\circ$	ב. $\cos 150^\circ$
ג. $\tan 160^\circ$	ד. $\cot 130^\circ$
ה. $\sin 215^\circ$	ו. $\cos 245^\circ$
ז. $\tan 230^\circ$	ח. $\cot 200^\circ$
ט. $\sin 300^\circ$	י. $\cos 310^\circ$

(2) חשב את ערכי הביטויים הבאים ע"י שימוש בזהויות המעגל הטריגונומטרי:

א. $\sin 150^\circ$	ב. $\cos 210^\circ$	ג. $\tan 120^\circ$
ד. $\sin 330^\circ$	ה. $\tan 225^\circ$	ו. $\sin 315^\circ$
ז. $\cos 120^\circ$	ח. $\tan(-30^\circ)$	ט. $\cos(-45^\circ)$
י. $\sin 510^\circ$	יא. $\cos 930^\circ$	יב. $\tan(-225^\circ)$

(3) חשב את ערכי הביטויים הבאים ללא שימוש במחשבון:

$$\begin{aligned} \text{א. } & (\sin 240^\circ \cdot \tan 150^\circ + \cos(-60^\circ))^2 \\ \text{ב. } & 8\sin^2 150^\circ \cdot \tan 135^\circ - 2 \cdot \sin 135^\circ \cdot \cos(-135^\circ) \\ \text{ג. } & \frac{\cot 225^\circ}{\sin(-225^\circ) - \cos 135^\circ} + \tan^2 210^\circ \end{aligned}$$

(4) הוכח כי אם  $\alpha, \beta$  ו- $\gamma$  הן זוויות במשולש, אז מתקיים:

$$\begin{aligned} \text{א. } & \sin(\alpha + \beta) = \sin \gamma \\ \text{ב. } & \sin\left(\frac{\gamma + \beta}{2}\right) = \cos \frac{\alpha}{2} \end{aligned}$$

**תשובות סופיות:**

- |                          |                                       |                          |                         |
|--------------------------|---------------------------------------|--------------------------|-------------------------|
| $-\cot 50^\circ$ .ד      | $-\tan 20^\circ$ .ג                   | $-\cos 30^\circ$ .ב      | $\sin 60^\circ$ .א (1   |
| $\cot 20^\circ$ .ח       | $\tan 50^\circ$ .ז                    | $-\cos 65^\circ$ .ו      | $-\sin 35^\circ$ .ה     |
|                          |                                       | $\cos 50^\circ$ .י       | $-\sin 60^\circ$ .ט     |
| $-\frac{1}{2}$ .ד        | $-\sqrt{3}$ .ג                        | $-\frac{\sqrt{3}}{2}$ .ב | $\frac{1}{2}$ .א (2     |
| $-\frac{\sqrt{3}}{3}$ .ח | $-\frac{1}{2}$ .ז                     | $-\frac{\sqrt{2}}{2}$ .ו | 1 .ה                    |
| $-1$ .יב                 | $-\frac{\sqrt{3}}{2}$ .יא             | $\frac{1}{2}$ .י         | $\frac{\sqrt{2}}{2}$ .ט |
|                          | $\frac{1}{\sqrt{2}} + \frac{1}{3}$ .ג | $-1$ .ב                  | 1 .א (3                 |
- (4) שאלת הוכחה.

## סכום והפרש זוויות:

### סיכום כללי:

סכום והפרש עבור  $\sin(\alpha \pm \beta)$  ו- $\cos(\alpha \pm \beta)$  יחושב לפי:

$$\begin{aligned} \sin(\alpha \pm \beta) &= \sin \alpha \cos \beta \pm \sin \beta \cos \alpha \\ \cos(\alpha \pm \beta) &= \cos \alpha \cos \beta \mp \sin \alpha \sin \beta \end{aligned}$$

סכום והפרש עבור  $\tan(\alpha \pm \beta)$  ו- $\cot(\alpha \pm \beta)$

$$\begin{aligned} \tan(\alpha \pm \beta) &= \frac{\tan \alpha \pm \tan \beta}{1 \mp \tan \alpha \tan \beta} \\ \cot(\alpha \pm \beta) &= \frac{\cot \alpha \cot \beta \mp 1}{\cot \beta \pm \cot \alpha} \end{aligned}$$

### הערה:

בסרטון התיאוריה אין התייחסות מיוחדת לזהויות עבור  $\tan(\alpha \pm \beta)$  ו- $\cot(\alpha \pm \beta)$ .

### שאלות:

1) חשב את ערכי הביטויים הבאים תוך שימוש בזהויות של סכום והפרש זוויות וללא שימוש במחשבון:

א. $\sin 75^\circ$	ב. $\sin 15^\circ$	ג. $\sin 105^\circ$
ד. $\sin(-15^\circ)$	ה. $\cos 75^\circ$	ו. $\cos 15^\circ$
ז. $\cos(-105^\circ)$	ח. $\cos 165^\circ$	ט. $\cos(-195^\circ)$

2) חשב ללא שימוש במחשבון את ערכי הביטויים הבאים:

- א.  $\sin 65^\circ \cos 25^\circ + \sin 25^\circ \cos 65^\circ$   
 ב.  $5 \cos 50^\circ \cos 20^\circ + 5 \sin 50^\circ \sin 20^\circ$

(3) הוכח את הזהויות הבאות :

$$\text{א. } \sin(60^\circ + \alpha) + \sin(60^\circ - \alpha) = \sqrt{3} \cos \alpha$$

$$\text{ב. } \cos(45^\circ - \alpha) - \cos(45^\circ + \alpha) = \sqrt{2} \sin \alpha$$

$$\text{ג. } \sin(\alpha + \beta) \cdot \sin(\alpha - \beta) = \sin^2 \alpha - \sin^2 \beta$$

$$\text{ד. } \tan \alpha - \tan \beta = \frac{\sin(\alpha - \beta)}{\cos \alpha \cos \beta}$$

(4) נתון:  $\cos \alpha = \frac{4}{5}$ ,  $\cos \beta = \frac{8}{17}$  ו- $\alpha, \beta$  זוויות חדות.מבלי למצוא את הערכים של  $\alpha$  ו- $\beta$  חשב :

$$\text{א. } \sin(\alpha + \beta)$$

$$\text{ב. } \cos(\alpha + \beta)$$

$$\text{ג. } \tan(\alpha + \beta)$$

(5) הוכח את הזהות:  $\sin(\alpha + \beta) - \sin(\alpha - \beta) = 2 \sin \beta \cos \alpha$ (6) הוכח את הזהות:  $(\sin \alpha + \cos \alpha)(\sin 2\alpha + \cos 2\alpha) = \sin 3\alpha + \cos \alpha$ (7) הוכח את הזהות:  $\tan 7\alpha - \tan 5\alpha - \tan 2\alpha = \tan 7\alpha \tan 5\alpha \tan 2\alpha$ (8) הוכח את הזהות:  $\frac{\sin(\alpha - \beta)}{\cos(\alpha + \beta)} = \frac{\tan \alpha - \tan \beta}{1 - \tan \alpha \tan \beta}$ (9) הוכח את הזהות:  $\cot \alpha - \cot \beta = \frac{\sin(\beta - \alpha)}{\sin \alpha \sin \beta}$ 

(10) הוכח את הזהות הבאה :

$$\sin \alpha \cos \beta \cos \gamma + \cos \alpha \sin \beta \cos \gamma + \cos \alpha \cos \beta \sin \gamma - \sin \alpha \sin \beta \sin \gamma = \sin(\alpha + \beta + \gamma)$$

(11) הוכח כי מתקיים :  $\sin 65^\circ \cos 25^\circ + \sin 25^\circ \cos 65^\circ = 1$

(12) הוכח כי מתקיים :  $\tan 18^\circ \tan 27^\circ + \tan 18^\circ + \tan 27^\circ = 1$

(13) נתון כי :  $\sin 76^\circ = m$  . הבע את  $\sin 31^\circ$  באמצעות  $m$  .

(14) הזוויות  $\alpha$  ו- $\beta$  הן זוויות חדות.

נתון כי :  $\tan \beta = \frac{(2k-1)\sqrt{3}}{3}$  ו-  $\tan \alpha = \frac{(2-k)\sqrt{3}}{3k}$

הראה כי מתקיים :  $\alpha + \beta = 60^\circ$  .

(15) היעזר בנוסחה :  $\tan(\alpha \pm \beta) = \frac{\tan \alpha \pm \tan \beta}{1 \mp \tan \alpha \tan \beta}$  ומצא את  $\tan x$  ו-  $\tan y$

אם ידוע כי :  $\tan(x+y) = -3$  ו-  $\tan(x-y) = \frac{1}{3}$  . הבחן בין שני מקרים.

## תשובות סופיות:

$$(1) \quad \begin{array}{l} \text{א. } \frac{\sqrt{6}+\sqrt{2}}{4} \quad \text{ב. } \frac{\sqrt{6}-\sqrt{2}}{4} \quad \text{ג. } \frac{\sqrt{6}+\sqrt{2}}{4} \quad \text{ד. } \frac{\sqrt{2}-\sqrt{6}}{4} \quad \text{ה. } \frac{\sqrt{6}-\sqrt{2}}{4} \\ \text{ו. } \frac{\sqrt{6}+\sqrt{2}}{4} \quad \text{ז. } \frac{\sqrt{2}-\sqrt{6}}{4} \quad \text{ח. } -\frac{\sqrt{6}+\sqrt{2}}{4} \quad \text{ט. } -\frac{\sqrt{6}+\sqrt{2}}{4} \end{array}$$

$$(2) \quad \begin{array}{l} \text{א. } 1 \\ \text{ב. } \frac{5\sqrt{3}}{2} \end{array}$$

(3) שאלת הוכחה.

$$(4) \quad \begin{array}{l} \text{א. } \frac{84}{85} \\ \text{ב. } -\frac{13}{85} \\ \text{ג. } -6\frac{6}{13} \end{array}$$

(5) שאלת הוכחה.

(6) שאלת הוכחה.

(7) שאלת הוכחה.

(8) שאלת הוכחה.

(9) שאלת הוכחה.

(10) שאלת הוכחה.

(11) שאלת הוכחה.

(12) שאלת הוכחה.

(13) שאלת הוכחה.

$$(14) \quad \frac{\sqrt{2}}{2} (m - \sqrt{1-m^2})$$

(15) שאלת הוכחה.

$$(16) \quad 1 \text{ ו-} 2 \text{ או } -\frac{1}{2} \text{ ו-} -1.$$

## זווית כפולה:

### סיכום כללי:

נפתח זווית כפולה לפי הצורות הבאות:

$$\begin{aligned} \sin 2\alpha &= 2\sin \alpha \cos \alpha \\ \cos 2\alpha &= \cos^2 \alpha - \sin^2 \alpha = 2\cos^2 \alpha - 1 = 1 - 2\sin^2 \alpha \end{aligned}$$

### שאלות:

(1) הוכח את הזהויות הבאות:

- |   |   |
|---|---|
| א. $4\sin \alpha \cos \alpha \cos 2\alpha = \sin 4\alpha$                               | ב. $(\sin \alpha - \cos \alpha)^2 = 1 - \sin 2\alpha$   |
| ג. $(\sin 3\alpha - \cos 3\alpha)^2 = 1 - \sin 6\alpha$                                 | ד. $\cos^4 \alpha - \sin^4 \alpha = \cos 2\alpha$   |
| ה. $\frac{\cos \alpha}{\sin \alpha} - \frac{\sin \alpha}{\cos \alpha} = 2 \cot 2\alpha$ | ו. $\frac{\cos 2\alpha - 2\sin^2 \alpha \cos 2\alpha}{\sin 4\alpha} = \frac{1}{2} \cot 2\alpha$ |
| ז. $\cos^2 2\alpha = 4\sin^4 \alpha - 4\sin^2 \alpha + 1$                               | ח. $\cos 4\alpha = 8\cos^4 \alpha - 8\cos^2 \alpha + 1$   |

(2) הוכח את הזהות:  $\sin^3 \alpha = \frac{3\sin \alpha - \sin 3\alpha}{4}$  ע"י כתיבה של  $\sin 3\alpha$

לפי:  $\sin(\alpha + 2\alpha)$  ושימוש בזהויות שנלמדו.

(3) הוכח את הזהות:  $\cos^3 \alpha = \frac{3\cos \alpha + \cos 3\alpha}{4}$  ע"י כתיבה של  $\cos 3\alpha$

לפי:  $\cos(\alpha + 2\alpha)$  ושימוש בזהויות שנלמדו.

(4) נתונה זווית חדה  $\alpha$  המקיימת:  $\sin \alpha = \frac{40}{41}$ . מבלי להיעזר במחשבון חשב:

- א.  $\cos \alpha$
- ב.  $\tan \alpha$
- ג.  $\sin 2\alpha$
- ד.  $\cos 2\alpha$
- ה.  $\tan 2\alpha$

(5) נתונה זווית חדה  $\alpha$  המקיימת:  $\tan \alpha = \frac{5}{12}$ . מבלי להיעזר במחשבון חשב:

א.  $\sin \alpha$

ב.  $\cos \alpha$

ג.  $\sin 2\alpha$

ד.  $\cos 2\alpha$

(6) נתונה זווית  $\alpha$  ברביע הראשון וזווית  $\beta$  ברביע השני המקיימות:  $\sin \alpha = \frac{5}{13}$

ו- $\cos \beta = -0.8$ . מבלי למצוא את  $\alpha$  ו- $\beta$  חשב את הביטויים הבאים:

א.  $\sin(\alpha + \beta)$

ב.  $\cos(\alpha + \beta)$

ג.  $\sin(2\alpha + \beta)$

(7) נתון כי  $\sin \alpha + \cos \alpha = 1.2$  עבור  $0^\circ < \alpha < 90^\circ$ . חשב את  $\sin 2\alpha$ .

(8) פשט את הביטוי הבא:  $\sqrt{\frac{1 + \cos 8\alpha}{2}}$

(9) ללא שימוש במחשבון, חשב את ערך הביטוי הבא:  $\frac{\sin 16^\circ \cos 16^\circ}{3 - 6 \sin^2 29^\circ}$

(10) ללא שימוש במחשבון, חשב את ערך הביטוי הבא:  $\frac{\sin^2 78^\circ - \cos^2 78^\circ}{\sin 66^\circ}$

(11) ללא שימוש במחשבון, חשב את ערך הביטוי הבא:  $\frac{5 \tan 15^\circ (1 - 2 \cos^2 15^\circ)}{1 - \tan^2 15^\circ}$

## תשובות סופיות:

(1) שאלת הוכחה.

(2) שאלת הוכחה.

(3) שאלת הוכחה.

$$(4) \quad \begin{array}{ll} \text{א. } \frac{9}{41} & \text{ב. } 4\frac{4}{9} \\ \text{ג. } \frac{720}{1681} & \text{ד. } -\frac{1519}{1681} \end{array}$$

$$\text{ה. } -\frac{720}{1519}$$

$$(5) \quad \begin{array}{ll} \text{א. } \frac{5}{13} & \text{ב. } \frac{12}{13} \\ \text{ג. } \frac{120}{169} & \text{ד. } \frac{119}{169} \end{array}$$

$$(6) \quad \begin{array}{ll} \text{א. } \frac{16}{65} & \text{ב. } -\frac{63}{65} \\ \text{ג. } -\frac{123}{845} & \end{array}$$

(7) .0.44

(8)  $\cos 4\alpha$ .

$$(9) \quad \frac{1}{6}$$

(10) .1

(11) .-1.25

## סכום והפרש פונקציות טריגונומטריות:

### סיכום כללי:

להלן נוסחאות הסכום וההפרש של פונקציות טריגונומטריות:

$\sin \alpha + \sin \beta = 2 \sin \frac{\alpha + \beta}{2} \cos \frac{\alpha - \beta}{2}$
$\sin \alpha - \sin \beta = 2 \sin \frac{\alpha - \beta}{2} \cos \frac{\alpha + \beta}{2}$
$\cos \alpha + \cos \beta = 2 \cos \frac{\alpha + \beta}{2} \cos \frac{\alpha - \beta}{2}$
$\cos \alpha - \cos \beta = -2 \sin \frac{\alpha + \beta}{2} \sin \frac{\alpha - \beta}{2}$

### הערה:

בסרטון התיאוריה אין התייחסות לזהויות הסכום וההפרש של טנגנס ושל קוטנגנס עקב חוסר השימוש בהן בפתרון שאלות.

### שאלות:

- (1) הוכח את הזהות הבאה :  $\sin 5\alpha + \sin 3\alpha = 2 \sin 4\alpha \cos \alpha$
- (2) הוכח את הזהות הבאה :  $\sin 7\alpha - \sin 2\alpha = 2 \sin 2.5\alpha \cos 4.5\alpha$
- (3) הוכח את הזהות הבאה :  $\cos \alpha + \cos 5\alpha = 2 \sin 2\alpha \cos 3\alpha$
- (4) הוכח את הזהות הבאה :  $\cos 5\alpha - \cos 2\alpha = -2 \sin 3.5\alpha \cos 1.5\alpha$
- (5) הוכח את הזהות הבאה :  $\sin 3\alpha = 2 \sin 2\alpha \cos \alpha - \sin \alpha$
- (6) הוכח את הזהות הבאה :  $\sin^2 \alpha - \sin^2 \beta = \sin(\alpha + \beta) \sin(\alpha - \beta)$
- (7) הוכח את הזהות הבאה :  $\sin(2\alpha + \beta) - 2 \cos(\alpha + \beta) \sin \alpha = \sin \beta$
- (8) הוכח את הזהות הבאה :  $\frac{\sin 5\alpha - \sin \alpha}{\sin 4\alpha - \sin 2\alpha} = 2 \cos \alpha$

$$(9) \quad \frac{\sin 7\alpha - \sin 3\alpha}{\cos 4\alpha + \cos 6\alpha} = 2 \sin \alpha \quad \text{הוכח את הזהות הבאה:}$$

$$(10) \quad \frac{\sin \alpha + \sin 2\alpha + \sin 3\alpha}{\cos \alpha + \cos 2\alpha + \cos 3\alpha} = \tan 2\alpha \quad \text{הוכח את הזהות הבאה:}$$

$$(11) \quad \tan \alpha + \tan 3\alpha = \frac{2 \sin 4\alpha}{\cos 4\alpha + \cos 2\alpha} \quad \text{הוכח את הזהות הבאה:}$$

$$(12) \quad \text{פשט את הביטוי: } \frac{1 + \cos \alpha + \cos 2\alpha + \cos 3\alpha}{\cos \alpha + 2 \cos^2 \alpha - 1} \quad \text{ומצא את ערכו מבלי להיעזר}$$

$$\text{במחשבון אם ידוע כי } \sin \frac{\alpha}{2} = \frac{5}{6}$$

$$(13) \quad \text{נתון כי } \alpha \text{ ו-} \beta \text{ הן זוויות חדות המקיימות: } \sin \alpha = \frac{2mn}{m^2 + n^2} \text{ ו-} \sin \beta = \frac{n^2 - m^2}{m^2 + n^2}$$

$$\text{הראה כי: } \alpha + \beta = 90^\circ$$

$$(14) \quad \text{היעזר במעבר מכפל לסכום או הפרש}$$

$$\text{והוכח כי: } \cos 6\alpha \cos 2\alpha - \cos 5\alpha \cos \alpha = -\sin 7\alpha \sin \alpha$$

$$(15) \quad \text{היעזר במעבר מכפל לסכום או הפרש}$$

$$\text{והוכח כי: } \sin 4\alpha \sin 2\alpha - \sin 5\alpha \sin \alpha + \cos 3\alpha \cos \alpha = \cos 2\alpha$$

$$(16) \quad \text{חשב ללא מחשבון את ערך הביטוי הבא: } \sin 52.5^\circ \cdot \sin 7.5^\circ$$

$$(17) \quad \text{חשב ללא מחשבון את ערך הביטוי הבא: } \frac{\sin 35^\circ \sin 55^\circ}{\cos 40^\circ \cos 20^\circ - 0.25}$$

$$(18) \quad \text{חשב ללא מחשבון את ערך הביטוי הבא: } \cos 20^\circ \cos 40^\circ \cos 80^\circ$$

$$(19) \quad \text{חשב ללא מחשבון את ערך הביטוי הבא: } \sin 5^\circ \cdot \sin 25^\circ \cdot \sin 35^\circ \cdot \sin 55^\circ \cdot \sin 65^\circ \cdot \sin 85^\circ$$

### תשובות סופיות:

(1) שאלת הוכחה.

(2) שאלת הוכחה.

(3) שאלת הוכחה.

(4) שאלת הוכחה.

(5) שאלת הוכחה.

(6) שאלת הוכחה.

(7) שאלת הוכחה.

(8) שאלת הוכחה.

(9) שאלת הוכחה.

(10) שאלת הוכחה.

(11) שאלת הוכחה.

(12)  $-\frac{7}{9}$ .

(13) שאלת הוכחה.

(14) שאלת הוכחה.

(15) שאלת הוכחה.

(16)  $\frac{\sqrt{2}-1}{4}$ .

(17) 1.

(18)  $\frac{1}{8}$ .(19)  $\frac{1}{64}$ .

## מכפלת פונקציות:

### סיכום כללי:

להלן נוסחאות המעבר מסכום למכפלה וממכפלה לסכום:

$$\left\{ \begin{array}{l} \sin \alpha + \sin \beta = 2 \sin \frac{\alpha + \beta}{2} \cos \frac{\alpha - \beta}{2} \\ \sin \alpha - \sin \beta = 2 \sin \frac{\alpha - \beta}{2} \cos \frac{\alpha + \beta}{2} \\ \cos \alpha + \cos \beta = 2 \cos \frac{\alpha + \beta}{2} \cos \frac{\alpha - \beta}{2} \\ \cos \alpha - \cos \beta = -2 \sin \frac{\alpha + \beta}{2} \sin \frac{\alpha - \beta}{2} \end{array} \right. \quad \left\{ \begin{array}{l} \sin \alpha \cos \beta = \frac{1}{2} [\sin(\alpha + \beta) + \sin(\alpha - \beta)] \\ \cos \alpha \cos \beta = \frac{1}{2} [\cos(\alpha + \beta) + \cos(\alpha - \beta)] \\ \sin \alpha \sin \beta = \frac{1}{2} [\cos(\alpha - \beta) - \cos(\alpha + \beta)] \end{array} \right.$$

### שאלות:

- (1) הוכח את הזהות הבאה:  $\sin 7\alpha \cos \alpha = \frac{1}{2}(\sin 8\alpha + \sin 6\alpha)$
- (2) הוכח את הזהות הבאה:  $\cos 11\alpha \sin 3\alpha = \frac{1}{2}(\sin 14\alpha - \sin 8\alpha)$
- (3) הוכח את הזהות הבאה:  $\cos 4\alpha \cos 10\alpha = \frac{1}{2}(\cos 6\alpha + \cos 14\alpha)$
- (4) הוכח את הזהות הבאה:  $\sin 3\alpha \sin 7\alpha = \frac{1}{2}(\cos 4\alpha - \cos 10\alpha)$
- (5) הוכח את הזהות הבאה:  $2 \sin 7\alpha \sin 2\alpha + \cos 9\alpha = \cos 5\alpha$
- (6) הוכח את הזהות הבאה:  $\sin 7\alpha \cos 4\alpha - \sin 4\alpha \cos \alpha = \sin 3\alpha \cos 8\alpha$
- (7) הוכח את הזהות הבאה:  $\sin \alpha \sin 3\alpha = \cos 2\alpha - \cos 3\alpha \cos \alpha$
- (8) הוכח את הזהות הבאה:  $2(\sin^2 \beta - \sin^2 \alpha) = \cos 2\alpha - \cos 2\beta$
- (9) הוכח את הזהות הבאה:  $\frac{2}{\cot \beta - \tan \alpha} = \tan(\alpha + \beta) - \frac{\sin(\alpha - \beta)}{\cos(\alpha + \beta)}$

### תשובות סופיות:

- 1) הוכחה.
- 2) הוכחה.
- 3) הוכחה.
- 4) הוכחה.
- 5) הוכחה.
- 6) הוכחה.
- 7) הוכחה.
- 8) הוכחה.
- 9) הוכחה.

# מבוא לשיטות כמותיות בניהול

פרק 9 - משוואות טריגונומטריות ואי שוויונים טריגונומטריים

תוכן העניינים

109	1. משוואות טריגונומטריות כלליות
112	2. משוואות הנפתרות עי טכניקה אלגברית
114	3. משוואות הנפתרות על ידי זהויות יסוד
116	4. משוואות הנפתרות על ידי זהויות של מעגל היחידה
117	5. משוואות הנפתרות על ידי חלוקה בקוסינוס
118	6. משוואות הנפתרות על ידי זהויות של סכום והפרש זוויות
119	7. משוואות הנפתרות על ידי זהויות של זווית כפולה
120	8. משוואות מהצורה $a \sin(x) + b \cos(x) = c$
121	9. משוואות הנפתרות על ידי זהויות של סכום והפרש פונקציות
123	10. משוואות עם תחום נתון
124	11. משוואות עם זוויות ברדיאנים
128	12. אי שוויונים טריגונומטריים

## משוואות טריגונומטריות כלליות:

### סיכום כללי:

פתרון כללי של משוואות טריגונומטריות (במעלות):

להלן נוסחאות הפתרון של המשוואות הטריגונומטריות היסודיות  
 כאשר  $x$  הוא משתנה ו- $\alpha$  היא זווית נתונה/ידועה:

המשוואה	הפתרון
$\sin x = \sin \alpha$	$x_1 = \alpha + 360^\circ k$ , $x_2 = 180^\circ - \alpha + 360^\circ k$
$\cos x = \cos \alpha$	$x_{1,2} = \pm \alpha + 360^\circ k$
$\tan x = \tan \alpha$	$x = \alpha + 180^\circ k$
$\cot x = \cot \alpha$	$x = \alpha + 180^\circ k$

כאשר  $k$  מספר שלם.

### שאלות:

(1) כתוב את הפתרון הכללי של המשוואות הבאות (פונקציית הסינוס):

$$\text{א. } \sin x = \frac{1}{2} \quad \text{ב. } \sin x = \frac{\sqrt{2}}{2} \quad \text{ג. } \sin x = -\frac{\sqrt{3}}{2} \quad \text{ד. } \sin x = -\frac{1}{2}$$

(2) כתוב את הפתרון הכללי של המשוואות הבאות (פונקציית הקוסינוס):

$$\text{א. } \cos x = \frac{1}{2} \quad \text{ב. } \cos x = -\frac{\sqrt{3}}{2}$$

(3) כתוב את הפתרון הכללי של המשוואות הבאות (פונקציית הטנגנס):

$$\text{א. } \tan x = \frac{1}{\sqrt{3}} \quad \text{ב. } \tan x = -1$$

(4) כתוב את הפתרון הכללי של המשוואות הבאות (זווית כללית):

א.  $\sin x = 0.7$     ב.  $\cos x = -0.6$     ג.  $\tan x = 5$

(5) כתוב את הפתרון הכללי של המשוואות הבאות (משוואות לא מסודרות):

א.  $\sin 3x = \frac{1}{2}$     ב.  $2 \cos 2x = -\sqrt{3}$

ג.  $\tan 5x = -1$     ד.  $3 \sin 2x = 2$

ה.  $3 \cos 3x = 1$     ו.  $2 \tan 4x = 1$

(6) כתוב את הפתרון הכללי של המשוואות הבאות (ארגומנט מורכב):

א.  $\sin(2x + 30^\circ) = -\frac{\sqrt{3}}{2}$     ב.  $\cos(75^\circ - 3x) = \frac{\sqrt{2}}{2}$     ג.  $\tan(50^\circ - x) = 1.3$

(7) כתוב את הפתרון הכללי של המשוואות הבאות (פונקציות עם ארגומנטים שונים):

א.  $\sin x = \sin 3x$     ב.  $\sin 2x = \sin(x + 30^\circ)$

ג.  $\sin x = \sin(120^\circ - x)$     ד.  $\cos x = \cos 3x$

ה.  $\cos x = \cos(40^\circ - x)$     ו.  $\tan x = \tan 3x$

ז.  $\tan 2x = \tan(60^\circ - x)$

(8) כתוב את הפתרון הכללי של המשוואות הבאות (משוואות מיוחדות):

א.  $\sin x = 0$     ב.  $\sin x = 1$

ג.  $\sin x = -1$     ד.  $\cos x = 0$

ה.  $\cos x = 1$     ו.  $\cos x = -1$

ז.  $\tan x = 0$     ח.  $\tan x = 1$

## תשובות סופיות:

- (1) א.  $x_1 = 30^\circ + 360^\circ k$ ,  $x_2 = 150^\circ + 360^\circ k$  .ג.  $x_1 = 45^\circ + 360^\circ k$ ,  $x_2 = 135^\circ + 360^\circ k$
- ג.  $x_1 = -60^\circ + 360^\circ k$ ,  $x_2 = 240^\circ + 360^\circ k$  .ד.  $x_1 = -30^\circ + 360^\circ k$ ,  $x_2 = 210^\circ + 360^\circ k$
- (2) א.  $x_{1,2} = \pm 60^\circ + 360^\circ k$  .ג.  $x_{1,2} = \pm 150^\circ + 360^\circ k$
- (3) א.  $x = 30^\circ + 180^\circ k$  .ג.  $x = 135^\circ + 180^\circ k$
- (4) א.  $x_1 = 44.427^\circ + 360^\circ k$ ,  $x_2 = 135.573^\circ + 360^\circ k$  .ג.  $x_{1,2} = 126.87^\circ + 360^\circ k$
- ג.  $x = 78.69^\circ + 180^\circ k$
- (5) א.  $x_1 = 10^\circ + 120^\circ k$ ,  $x_2 = 50^\circ + 120^\circ k$  .ג.  $x_1 = 75^\circ + 180^\circ k$ ,  $x_2 = -75^\circ + 180^\circ k$
- ג.  $x = -9^\circ + 36^\circ k$  .ה.  $x_{1,2} = \pm 23.5^\circ + 120^\circ k$
- ה.  $x_{1,2} = \pm 23.5^\circ + 120^\circ k$
- (6) א.  $x_1 = 105^\circ + 180^\circ k$ ,  $x_2 = -45^\circ + 180^\circ k$  .ג.  $x_1 = 10^\circ + 120^\circ k$ ,  $x_2 = 40^\circ + 120^\circ k$
- ג.  $x = -2.431^\circ + 180^\circ k$
- (7) א.  $x_1 = 180^\circ k$ ,  $x_2 = 45^\circ + 90^\circ k$  .ג.  $x = 60^\circ + 180^\circ k$
- ה.  $x = 20^\circ + 180^\circ k$  .ז.  $x = 90^\circ k$
- (8) א.  $x = 180^\circ k$  .ג.  $x = 180^\circ k$  .ה.  $x = 180^\circ k$  .ז.  $x = 90^\circ + 180^\circ k$  .ח.  $x = 45^\circ + 180^\circ k$  .ט.  $x = 180^\circ k$
- א.  $x = 180^\circ k$  .ב.  $x = 90^\circ + 360^\circ k$  .ד.  $x = 180^\circ + 360^\circ k$  .ו.  $x = 360^\circ k$  .י.  $x = 180^\circ + 360^\circ k$
- א.  $x = 20^\circ + 60^\circ k$  .ב.  $x = 180^\circ k$  .ד.  $x = 180^\circ + 360^\circ k$  .ו.  $x = 180^\circ + 360^\circ k$  .ח.  $x = 45^\circ + 180^\circ k$

## משוואות הנפתרות ע"י טכניקה אלגברית:

### סיכום כללי:

נעזר בטכניקה אלגברית בכדי להביא משוואה מורכבת לצורה של משוואה יסודית.

### טכניקות שכיחות:

- הוצאת שורש ריבועי.
- פירוק לגורמים (ע"י הוצאת גורם משותף, ע"י נוסחאות הכפל המקוצר וע"י פירוק טרינום).
- פתרון משוואה ריבועית.

### שאלות:

כתוב את הפתרון הכללי של המשוואות הבאות (טכניקה אלגברית):

$$\sin^2 x = \frac{1}{4} \quad (2) \qquad \cos^2 x = \frac{3}{4} \quad (1)$$

$$\sin x \cos 3x = 0 \quad (4) \qquad \tan^2 2x = 3 \quad (3)$$

$$2 \cos^2 x + \sqrt{3} \cos x = 0 \quad (6) \qquad \sin 2x - 2 \sin^2 2x = 0 \quad (5)$$

$$3 \sin^2 x - \sin x = 2 \quad (8) \qquad 2 \sin^2 x - \sin x - 1 = 0 \quad (7)$$

$$\cos^2 x + 2 \cos x = 3 \quad (10) \qquad 6 \sin^2 x - \sin x - 1 = 0 \quad (9)$$

$$\tan^2 x = 4 \tan x - 1 \quad (12) \qquad \tan^2 x - 3 \tan x - 4 = 0 \quad (11)$$

$$\frac{\sin x}{\cos x - 1} = 0 \quad (14) \qquad \cos x - \frac{2}{\cos x} + 1 = 0 \quad (13)$$

$$\frac{\cos 2x}{\tan x + 1} = 0 \quad (15)$$

## תשובות סופיות:

$$\cdot x_{1,2} = \pm 30^\circ + 360^\circ k, x_{3,4} = \pm 150^\circ + 360^\circ k \quad (1)$$

$$\cdot x_1 = 30^\circ + 360^\circ k, x_2 = 150^\circ + 360^\circ k, x_3 = 330^\circ + 360^\circ k, x_4 = 210^\circ + 360^\circ k \quad (2)$$

$$\cdot x_1 = 30^\circ + 90^\circ k, x_2 = -30^\circ + 90^\circ k \quad (3)$$

$$\cdot x_1 = 180^\circ k, x_2 = 30^\circ + 60^\circ k \quad (4)$$

$$\cdot x_1 = 90^\circ k, x_2 = 15^\circ + 180^\circ k, x_3 = 75^\circ + 180^\circ k \quad (5)$$

$$\cdot x_1 = 90^\circ + 180^\circ k, x_{2,3} = \pm 150^\circ + 360^\circ k \quad (6)$$

$$\cdot x_1 = 90^\circ + 360^\circ k, x_2 = 210^\circ + 360^\circ k, x_3 = -30^\circ + 360^\circ k \quad (7)$$

$$\cdot x_1 = 90^\circ + 360^\circ k, x_2 = -41.8^\circ + 360^\circ k, x_3 = 221.8^\circ + 360^\circ k \quad (8)$$

$$\cdot x_1 = 30^\circ + 360^\circ k, x_2 = 150^\circ + 360^\circ k, x_3 = -19.4^\circ + 360^\circ k, x_4 = 199.4^\circ + 360^\circ k \quad (9)$$

$$\cdot x = 360^\circ k \quad (10)$$

$$\cdot x_1 = -45^\circ + 180^\circ k, x_2 = 75.964^\circ + 180^\circ k \quad (11)$$

$$\cdot x_1 = 75^\circ + 180^\circ k, x_2 = 15^\circ + 180^\circ k \quad (12)$$

$$\cdot x = 360^\circ k \quad (13)$$

$$\cdot x = 180^\circ + 360^\circ k \quad (14)$$

$$\cdot x = 45^\circ + 90^\circ k, x \neq -45^\circ + 180^\circ k \quad (15)$$

## משוואות הנפתרות ע"י זהויות יסוד:

### סיכום כללי:

כאשר משוואה מכילה יותר מפונקציה טריגונומטרית אחת, יש תחילה להעביר אותה למשוואה שקולה המכילה פונקציה טריגונומטרית אחת. לאחר מכן ניתן לבצע פעולות אלגבריות בכדי לקבל משוואות יסודיות ולכתוב את הפתרון עבור כל אחת. לשם כך נעזר בזהויות טריגונומטריות.

### תזכורת – זהויות היסוד הטריגונומטריות:

$\sin^2 \alpha + \cos^2 \alpha = 1$ $\tan \alpha \cdot \cot \alpha = 1$	$\tan \alpha = \frac{\sin \alpha}{\cos \alpha}$ , $\cot \alpha = \frac{\cos \alpha}{\sin \alpha}$	קשרים בין פונקציות
$\sin \alpha = \cos(90^\circ - \alpha)$	$\cos \alpha = \sin(90^\circ - \alpha)$	זוויות משלימות ל- $90^\circ$
$\tan \alpha = \cot(90^\circ - \alpha)$	$\cot \alpha = \tan(90^\circ - \alpha)$	
$\tan^2 \alpha + 1 = \frac{1}{\cos^2 \alpha}$	$\cot^2 \alpha + 1 = \frac{1}{\sin^2 \alpha}$	קשרים בין פונקציות

### שאלות:

כתוב את הפתרון הכללי של המשוואות הבאות:

$$\sin x = \cos(x + 45^\circ) \quad (2)$$

$$\sin x = \cos x \quad (1)$$

$$2 \cos^2 x = 3 \sin x \quad (4)$$

$$\cos x = \frac{2}{3} \sin^2 x \quad (3)$$

$$\cos^2 x - \sin^2 x = \sin x \quad (6)$$

$$\sin^2 x - \cos x = \frac{1}{4} \quad (5)$$

$$\sin x - \tan x = 0 \quad (8)$$

$$\sin^2 x + 2 \cos^2 x = 1.5 \quad (7)$$

**תשובות סופיות:**

$$\cdot x = 45^\circ + 180^\circ k \quad (1)$$

$$\cdot x = 22.5^\circ + 180^\circ k \quad (2)$$

$$\cdot x_{1,2} = \pm 60^\circ + 360^\circ k \quad (3)$$

$$\cdot x_1 = 30^\circ + 360^\circ k, x_2 = 150^\circ + 360^\circ k \quad (4)$$

$$\cdot x_{1,2} = \pm 60^\circ + 360^\circ k \quad (5)$$

$$x_1 = 30^\circ + 120^\circ k, x_2 = -90^\circ + 360^\circ k \quad (6)$$

$$\cdot x_{1,2} = \pm 45^\circ + 360^\circ k, x_{3,4} = \pm 135^\circ + 360^\circ k \quad (7)$$

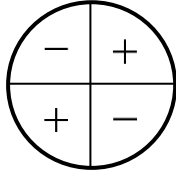
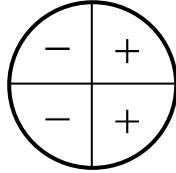
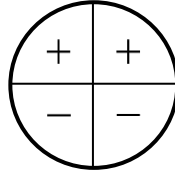
$$\cdot x = 180^\circ k \quad (8)$$

## משוואות הנפתרות ע"י זהויות של מעגל היחידה:

### סיכום כללי:

כאשר משוואה מכילה יותר מפונקציה טריגונומטרית אחת, יש תחילה להעביר אותה למשוואה שקולה המכילה פונקציה טריגונומטרית אחת. לאחר מכן ניתן לבצע פעולות אלגבריות בכדי לקבל משוואות יסודיות ולכתוב את הפתרון עבור כל אחת. לשם כך נעזר בזהויות טריגונומטריות.

### תזכורת – זהויות של מעגל היחידה:

טנגנס	קוסינוס	סינוס	רביע
$\tan(180^\circ - \alpha) = -\tan \alpha$ $\tan(180^\circ + \alpha) = \tan \alpha$ $\tan(-\alpha) = -\tan \alpha$	$\cos(180^\circ - \alpha) = -\cos \alpha$ $\cos(180^\circ + \alpha) = -\cos \alpha$ $\cos(-\alpha) = \cos \alpha$	$\sin(180^\circ - \alpha) = \sin \alpha$ $\sin(180^\circ + \alpha) = -\sin \alpha$	I II III
			סימנים

### זהויות עבור זויות הגדולות מ-360 מעלות:

$$\boxed{\begin{array}{l} \sin(\alpha + 360^\circ k) = \sin \alpha \\ \cos(\alpha + 360^\circ k) = \cos \alpha \end{array}}, \quad \boxed{\begin{array}{l} \tan(\alpha + 180^\circ k) = \tan \alpha \\ \cot(\alpha + 180^\circ k) = \cot \alpha \end{array}}$$

### שאלות:

כתוב את הפתרון הכללי של המשוואות הבאות:

$$\begin{array}{ll} \cos 2x = -\cos 3x & \text{(2)} \\ \sin 3x = -\cos(180^\circ - x) & \text{(4)} \end{array} \quad \begin{array}{ll} \sin x = -\sin 3x & \text{(1)} \\ \sin(x + 30^\circ) = -\cos x & \text{(3)} \end{array}$$

### תשובות סופיות:

$$\begin{array}{ll} x_1 = 180^\circ + 360^\circ k, x_2 = 36^\circ + 72^\circ k & \text{(2)} \\ x_1 = 22.5^\circ + 90^\circ k, x_2 = 45^\circ + 180^\circ k & \text{(4)} \end{array} \quad \begin{array}{ll} x_1 = 90^\circ k, x_2 = -90^\circ + 180^\circ k & \text{(1)} \\ x = 120^\circ + 180^\circ k & \text{(3)} \end{array}$$

## משוואות הנפתרות על ידי חלוקה בקוסינוס:

### סיכום כללי:

טכניקה יעילה כדי להעביר משוואה מהצורה:  $\sin x = a \cos x$  לפונקציה טריגונומטרית אחת היא ע"י חלוקה ב- $\cos x$  (בתנאי ש- $\cos x \neq 0$ ). כך מתקבלת המשוואה:

$$\begin{aligned} \sin x &= a \cos x \quad / : \cos x \neq 0 \\ \frac{\sin x}{\cos x} &= a \frac{\cos x}{\cos x} \\ \tan x &= a \\ x &= \tan^{-1}(a) + 180^\circ k \end{aligned}$$

### הערה:

יש לבדוק האם ערכי  $x$  שמקיימים  $\cos x = 0$  מהווים פתרון למשוואה. אם כן אז יש להוסיף אותם לפתרון הסופי.

### שאלות:

כתוב את הפתרון הכללי של המשוואות הבאות:

$3 \sin x = \cos x$ (2)	$\sin x = 2 \cos x$ (1)
$2 \sin x = -5 \cos x$ (4)	$4 \sin x = 7 \cos x$ (3)
$3 \sin^2 x = \cos^2 x$ (6)	$\sin^2 x = 8 \cos^2 x$ (5)

### תשובות סופיות:

$x = 63.43^\circ + 180^\circ k$ (1)	
$x = 18.43^\circ + 180^\circ k$ (2)	
$x = 60.25^\circ + 180^\circ k$ (3)	
$x = -68.19^\circ + 180^\circ k$ (4)	
$x_1 = 70.52^\circ + 180^\circ k, x_2 = -70.52^\circ + 180^\circ k$ (5)	
$x_1 = 30^\circ + 180^\circ k, x_2 = -30^\circ + 180^\circ k$ (6)	

## משוואות הנפתרות על ידי זהויות של סכום והפרש זוויות:

### סיכום כללי:

כאשר משוואה מכילה יותר מפונקציה טריגונומטרית אחת, יש תחילה להעביר אותה למשוואה שקולה המכילה פונקציה טריגונומטרית אחת. לאחר מכן ניתן לבצע פעולות אלגבריות בכדי לקבל משוואות יסודיות ולכתוב את הפתרון עבור כל אחת. לשם כך נעזר בזהויות טריגונומטריות.

### תזכורת – זהויות של סכום והפרש זוויות:

$\sin(\alpha \pm \beta) = \sin \alpha \cos \beta \pm \sin \beta \cos \alpha$ $\cos(\alpha \pm \beta) = \cos \alpha \cos \beta \mp \sin \alpha \sin \beta$	סכום והפרש עבור סינוס וקוסינוס
$\tan(\alpha \pm \beta) = \frac{\tan \alpha \pm \tan \beta}{1 \mp \tan \alpha \tan \beta}$ $\cot(\alpha \pm \beta) = \frac{\cot \alpha \cot \beta \mp 1}{\cot \beta \pm \cot \alpha}$	סכום והפרש עבור טנגנס וקוטנגנס

### שאלות:

כתוב את הפתרון הכללי של המשוואות הבאות:

$$\sin(x + 45^\circ) \sin(x - 45^\circ) = \frac{1}{2} \quad (2)$$

$$3 \cos^2 x - \sin^2 x = \sin 3x \quad (4)$$

$$2 \sin x = \sin(60^\circ - x) \quad (1)$$

$$\frac{\cos 3x}{\sin x} - \frac{\sin 3x}{\cos x} = 2 \quad (3)$$

### תשובות סופיות:

$$. x = 19.11^\circ + 180^\circ k \quad (1)$$

$$. x = 90^\circ + 180^\circ k \quad (2)$$

$$. x = 15^\circ + 60^\circ k \quad (3)$$

$$. x_{1,2} = \pm 60^\circ + 180^\circ k, x_3 = 90^\circ + 360^\circ k \quad (4)$$

## משוואות הנפתרות ע"י זהויות של זווית כפולה:

### סיכום כללי:

כאשר משוואה מכילה יותר מפונקציה טריגונומטרית אחת, יש תחילה להעביר אותה למשוואה שקולה המכילה פונקציה טריגונומטרית אחת. לאחר מכן ניתן לבצע פעולות אלגבריות בכדי לקבל משוואות יסודיות ולכתוב את הפתרון עבור כל אחת. לשם כך נעזר בזהויות טריגונומטריות.

### תזכורת – זהויות של זווית כפולה:

$\sin 2\alpha = 2 \sin \alpha \cos \alpha$	סינוס זווית כפולה
$\cos 2\alpha = \cos^2 \alpha - \sin^2 \alpha = 2 \cos^2 \alpha - 1 = 1 - 2 \sin^2 \alpha$	קוסינוס זווית כפולה

### שאלות:

כתוב את הפתרון הכללי של המשוואות הבאות:

$$\begin{array}{ll} \sqrt{2} \sin x + \sin 2x = 0 & \text{(2)} & \sin x - \sin 2x = 0 & \text{(1)} \\ 2 \cos 2x + \sin 4x = 0 & \text{(4)} & 4 \cos x = \sin 2x & \text{(3)} \\ \cos 2x = 2 \sin x & \text{(6)} & 3 \cos x - \cos 2x = 0 & \text{(5)} \\ 2 \sin^2 x = \cos 2x + 2 & \text{(8)} & \sin x + \cos 2x = 1 & \text{(7)} \end{array}$$

### תשובות סופיות:

$$\begin{array}{ll} x_1 = 180^\circ k, x_{2,3} = \pm 135^\circ + 360^\circ k & \text{(2)} & x_1 = 360^\circ k, x_2 = 60^\circ + 120^\circ k & \text{(1)} \\ x_1 = 45^\circ + 90^\circ k, x_2 = 135^\circ + 180^\circ k & \text{(4)} & x = 90^\circ + 180^\circ k & \text{(3)} \\ x_1 = 21.1^\circ + 360^\circ k, x_2 = 158.9^\circ + 360^\circ k & \text{(6)} & x_{1,2} = \pm 106.307^\circ + 360^\circ k & \text{(5)} \\ x_1 = 180^\circ k, x_2 = 30^\circ + 360^\circ k, x_3 = 150^\circ + 360^\circ k & \text{(7)} & & \\ x_1 = -60^\circ + 360^\circ k, x_2 = 60^\circ + 360^\circ k, x_3 = 120^\circ + 360^\circ k, x_4 = 240^\circ + 360^\circ k & \text{(8)} & & \end{array}$$

## משוואות מהצורה: $a \sin(x) + b \cos(x) = c$

### סיכום כללי:

ניתן להביא משוואה מהצורה:  $a \sin x + b \cos x = c$  לצורה:  $\sin x + \frac{b}{a} \cos x = \frac{c}{a}$ .

מציאת זווית  $\alpha$  המקיימת:  $\alpha = \tan^{-1}\left(\frac{b}{a}\right)$  תאפשר לכתוב:  $\sin x + \tan \alpha \cdot \cos x = \frac{c}{a}$ .

שימוש בזהות:  $\tan \alpha = \frac{\sin \alpha}{\cos \alpha}$  ובזהות:  $\sin(\alpha + \beta) = \sin \alpha \cos \beta + \sin \beta \cos \alpha$  יובילו:

$$\sin x + \frac{\sin \alpha}{\cos \alpha} \cdot \cos x = \frac{c}{a} \quad / \cdot \cos \alpha$$

$$\sin x \cos \alpha + \sin \alpha \cos x = \frac{c}{a} \cos \alpha$$

$$\sin(x + \alpha) = \frac{c}{a} \cos \alpha$$

אם נסמן:  $\frac{c}{a} \cos \alpha = k$  נקבל את המשוואה:  $\sin(x + \alpha) = k$  כאשר  $\alpha$  ו- $k$  ידועים. מכאן הפתרון הוא ישיר לפי משוואת סינוס.

### שאלות:

פתור את המשוואות הבאות:

$$5 \cos x - 6 \sin x = 1 \quad (2)$$

$$10 \sin x + 3 \cos x = 5 \quad (1)$$

$$\frac{1}{2} \sin x + \sqrt{3} \cos^2 \frac{x}{2} = \cos \frac{x}{2} \quad (4)$$

$$\sqrt{3} \sin 2x + 3 \cos 2x = \sqrt{12} \quad (3)$$

$$\cos x + \cos(60^\circ + x) = \sqrt{2} + \cos(60^\circ - x) \quad (5)$$

### תשובות סופיות:

$$x_1 = 11.91^\circ + 360^\circ k, x_2 = 134.69^\circ + 360^\circ k \quad (1)$$

$$x = 15^\circ + 180^\circ k \quad (3) \quad x_1 = 227.156^\circ + 360^\circ k, x_2 = 32.44^\circ + 360^\circ k \quad (2)$$

$$x_1 = -60^\circ + 720^\circ k, x_2 = 180^\circ + 360^\circ k \quad (4)$$

$$x_1 = -105^\circ + 360^\circ k, x_2 = 15^\circ + 360^\circ k \quad (5)$$

## משוואות הנפתרות ע"י זהויות של סכום והפרש פונקציות:

### סיכום כללי:

כאשר משוואה מכילה יותר מפונקציה טריגונומטרית אחת, יש תחילה להעביר אותה למשוואה שקולה המכילה פונקציה טריגונומטרית אחת. לאחר מכן ניתן לבצע פעולות אלגבריות בכדי לקבל משוואות יסודיות ולכתוב את הפתרון עבור כל אחת. לשם כך נעזר בזהויות טריגונומטריות.

### תזכורת – זהויות של סכום והפרש פונקציות:

$\sin \alpha + \sin \beta = 2 \sin \frac{\alpha + \beta}{2} \cos \frac{\alpha - \beta}{2}$ $\sin \alpha - \sin \beta = 2 \sin \frac{\alpha - \beta}{2} \cos \frac{\alpha + \beta}{2}$	<b>סכום והפרש פונקציות עבור סינוס</b>
$\cos \alpha + \cos \beta = 2 \cos \frac{\alpha + \beta}{2} \cos \frac{\alpha - \beta}{2}$ $\cos \alpha - \cos \beta = -2 \sin \frac{\alpha + \beta}{2} \sin \frac{\alpha - \beta}{2}$	<b>סכום והפרש פונקציות עבור קוסינוס</b>

### שאלות:

כתוב את הפתרון הכללי של המשוואות הבאות:

$$\sin x + \sin 3x = \sin 2x \quad (1)$$

$$\cos 2x - \cos 6x = \sin 2x \quad (2)$$

$$\sin x + \sin 3x = 4 \sin^3 x \quad (3)$$

$$\sin 6x - \sin 4x = 1 - \cos 2x \quad (4)$$

$$(\sin 5x + \sin 7x)^2 = (\cos 5x + \cos 7x)^2 \quad (5)$$

$$2 \cos^2 \frac{x}{2} + \cos 3x + \cos 5x = 1 \quad (6)$$

$$1 + \sin x + \sin 7x = \cos 8x \quad (7)$$

$$2 \sin 3x (\cos 2x + \cos x) = \sin x + \sin 2x \quad (8)$$

$$\sin(x + 60^\circ) - \sin x = \sin(2x + 60^\circ) - \sin 2x \quad (9)$$

$$\cos^2 3x - \cos^2 x = \sin x \cos x \quad (10)$$

$$\sin 8x \sin 2x + \cos 10x = 0 \quad (11)$$

$$\cos x + 3 \sin x = 1 + 2 \cos \frac{3x}{2} \cos \frac{x}{2} \quad (12)$$

$$4 \sin 2x \sin 5x \sin 7x - \sin 4x = 0 \quad (13)$$

$$4 \cos x \cos 2x \cos 3x = 1 \quad (14)$$

### תשובות סופיות:

$$x_{1,2} = \pm 60^\circ + 360^\circ k, x_3 = 90^\circ k \quad (1)$$

$$x_1 = 45^\circ + 90^\circ k, x_2 = 180^\circ k \quad (2)$$

$$x_1 = 37.5^\circ + 90^\circ k, x_2 = 7.5^\circ + 90^\circ k, x_3 = 90^\circ k \quad (3)$$

$$x_1 = 15^\circ + 60^\circ k, x_2 = 180^\circ k, x_3 = -22.5^\circ + 90^\circ k \quad (4)$$

$$x_1 = 36^\circ k, x_2 = \left(\frac{180}{7}\right)^\circ + \left(\frac{180}{7}\right)^\circ k \quad (5)$$

$$x_{1,2} = \pm 30^\circ + 90^\circ k, x_3 = 90^\circ + 180^\circ k \quad (6)$$

$$x_1 = -\left(12\frac{6}{7}\right)^\circ k + \left(51\frac{3}{7}\right)^\circ k, x_2 = 45^\circ k \quad (7)$$

$$x_1 = 40^\circ k, x_2 = 180^\circ + 360^\circ k \quad (8)$$

$$x_1 = -20^\circ + 120^\circ k, x_2 = 360^\circ k \quad (9)$$

$$x_1 = 52.5^\circ + 90^\circ k, x_2 = -7.5^\circ + 90^\circ k, x_3 = 90^\circ k \quad (10)$$

$$x_1 = 45^\circ + 90^\circ k, x_2 = 11.25^\circ + 22.5^\circ k \quad (11)$$

$$x_1 = 30^\circ + 360^\circ k, x_2 = 150^\circ + 360^\circ k \quad (12)$$

$$x_1 = 7.5^\circ + 15^\circ k, x_2 = 90^\circ k \quad (13)$$

$$x_1 = 60^\circ + 180^\circ k, x_2 = 22.5^\circ + 45^\circ k \quad (14)$$

## משוואות עם תחום נתון:

### סיכום כללי:

כדי למצוא את הפתרונות של משוואה טריגונומטרית בתחום נתון, נמצא תחילה את הפתרון הכללי שלה ולאחר מכן נציב ערכים ב- $k$  ונבחר את הערכים שנמצאים בתחום הנתון.

### שאלות:

מצא את כל הפתרונות של המשוואות הבאות בתחום הנתון לידן:

$$[0^\circ : 180^\circ], 8 \sin x - 4 = 0 \quad (1)$$

$$[-90^\circ : 90^\circ], \sin 2x = \sin(x + 60^\circ) \quad (2)$$

$$[-90^\circ : 90^\circ], 3 \cos(2x + 30^\circ) + 1 = 0 \quad (3)$$

$$[0^\circ : 360^\circ], \cos(50^\circ - x) = -\cos x \quad (4)$$

$$[-30^\circ : 30^\circ], 2 \sin 3x - 5 \cos 3x = 0 \quad (5)$$

$$[0^\circ : 180^\circ], 2 \cos^2 3x = \sin 6x + 1 \quad (6)$$

$$[-180^\circ : 180^\circ], \cos 4x + 1 = 3 \sin 2x \quad (7)$$

$$[-180^\circ : 180^\circ], \cos 2x + \cos^2 x + \sin x = 0 \quad (8)$$

### תשובות סופיות:

$$x = 30^\circ, 150^\circ \quad (1)$$

$$x = -80^\circ, 40^\circ, 60^\circ \quad (2)$$

$$x = 39.736^\circ, -69.736^\circ \quad (3)$$

$$x = 115^\circ, 295^\circ \quad (4)$$

$$x = 22.733^\circ \quad (5)$$

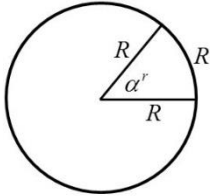
$$x = 7.5^\circ, 37.5^\circ, 67.5^\circ, 97.5^\circ, 127.5^\circ, 157.5^\circ \quad (6)$$

$$x = -165^\circ, -105^\circ, 15^\circ, 75^\circ \quad (7)$$

$$x = -138.19^\circ, -41.81^\circ, 90^\circ \quad (8)$$

## משוואות עם זוויות ברדיאנים:

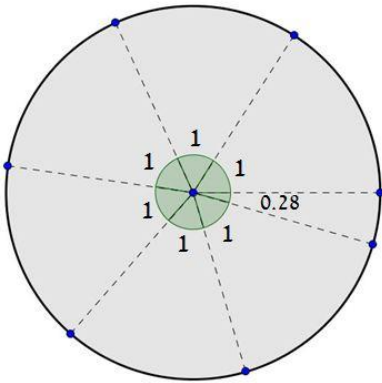
### סיכום כללי:



### הגדרת הרדיאן:

זווית של רדיאן אחד מוגדרת להיות הזווית המרכזית המתאימה לקשת שאורכה שווה לרדיוס המעגל.

עבור מעגל שרדיוסו  $R$ , תימצאנה  $2\pi$  רדיאנים על היקפו, שכן היקף מעגל הוא  $P = 2\pi \cdot R$ .



באיור שלפניך ניתן לראות חלוקה של מעגל ל- $2\pi = 6.28$  קשתות אשר שוות לרדיוס המעגל. הזווית של כל קשת כזאת שווה לרדיאן אחד, כאשר הזווית האחרונה שווה ל-0.28 מרדיאן. מקבלים  $2\pi$  רדיאנים.

### קשר בין רדיאנים למעלות:

- נוסחת מעבר מזווית  $\alpha^\circ$  (במעלות) לזווית  $\alpha^r$  (ברדיאנים):  $\alpha^r = \frac{\pi}{180} \alpha^\circ$
- נוסחת מעבר מזווית  $\alpha^r$  (ברדיאנים) לזווית  $\alpha^\circ$  (במעלות):  $\alpha^\circ = \frac{180}{\pi} \alpha^r$

### פתרונות משוואות טריגונומטריות ברדיאנים:

להלן נוסחאות הפתרון של המשוואות הטריונומטריות היסודיות כאשר  $x$  הוא משתנה ו- $\alpha$  היא זווית ידועה הנתונה ברדיאנים:

המשוואה	הפתרון
$\sin x = \sin \alpha$	$x_1 = \alpha + 2\pi k$ , $x_2 = \pi - \alpha + 2\pi k$
$\cos x = \cos \alpha$	$x_{1,2} = \pm \alpha + 2\pi k$
$\tan x = \tan \alpha$	$x = \alpha + \pi k$
$\cot x = \cot \alpha$	$x = \alpha + \pi k$

כאשר  $k$  מספר שלם.

**שאלות:**

**(1) המר את הזוויות הבאות ממעלות לרדיאנים:**

א. $30^\circ$	ב. $90^\circ$	ג. $75^\circ$	ד. $120^\circ$
ה. $210^\circ$	ו. $315^\circ$	ז. $18^\circ$	ח. $285^\circ$
ט. $-15^\circ$	י. $-80^\circ$	יא. $510^\circ$	יב. $-390^\circ$

**(2) המר את הזוויות הבאות מרדיאנים למעלות:**

א. $\pi$	ב. $2\pi$	ג. $4\pi$	ד. $1.5\pi$
ה. $\frac{1}{2}\pi$	ו. $\frac{\pi}{4}$	ז. $\frac{\pi}{6}$	ח. $\frac{1}{18}\pi$
ט. $\frac{13}{18}\pi$	י. $\frac{19}{12}\pi$	יא. $1\frac{1}{6}\pi$	יב. $2\frac{1}{4}\pi$

**(3) פתור את המשוואות הבאות בתחום שלידן (משוואות יסודיות שונות):**

א. $\left[0:\frac{1}{3}\pi\right], 2\sin 3x=1$	ב. $[0:\pi], \sqrt{3}+2\cos x=0$
ג. $[0:2\pi], 3-3\tan\frac{x}{2}=0$	ד. $[0:\pi], \sin\left(2x-\frac{\pi}{4}\right)=\frac{\sqrt{2}}{2}$
ה. $\left[0:\frac{1}{2}\pi\right], 4\cos\left(x+\frac{\pi}{3}\right)-2=0$	ו. $\left[-\frac{5\pi}{18}:\frac{5\pi}{18}\right], \sin x=\sin\left(\frac{2}{3}\pi-2x\right)$
ז. $\left[0:\frac{\pi}{3}\right], 5-5\tan(4x-0.1\pi)=0$	ח. $\left[-\frac{\pi}{4}:\frac{\pi}{4}\right], \sin\left(2x-\frac{\pi}{5}\right)=0.7$

**(4) פתור את המשוואות הבאות בתחום שלידן (טכניקה אלגברית):**

א. $\left[0:\frac{\pi}{2}\right], \sin^2 x=\frac{3}{4}$	ב. $\left[-\frac{\pi}{8}:\frac{\pi}{8}\right], 16\cos^2 2x-1=0$
ג. $[0:\pi], 2\tan^2 x-18=0$	ד. $\left[-\frac{\pi}{3}:\frac{\pi}{3}\right], 3\sin x\cos x+3\cos x=0$
ה. $\left[-\frac{\pi}{2}:\frac{\pi}{2}\right], \sin^2 x-5\sin x\cos x=0$	ו. $[-\pi:\pi], 2\sin^2 x-5\sin x+2=0$
ז. $[-\pi:0], 4\cos^2 x-\sqrt{2}\cos x-1=0$	ח. $[0:2\pi], \tan^2 x-7\tan x+10=0$

(5) פתור את המשוואות הבאות בתחום שלידן (שימוש בזהויות יסוד):

א.  $0 \leq x \leq \pi$ ,  $\sin x = \cos\left(x + \frac{\pi}{4}\right)$

ב.  $0 \leq x \leq \pi$ ,  $\tan x = 4 \sin x$

ג.  $0 \leq x \leq 2\pi$ ,  $2 \sin^2 x = 3 \cos x$

(6) פתור את המשוואות הבאות בתחום שלידן (שימוש בזהויות ממעגל היחידה):

א.  $[-\pi : \pi]$ ,  $\sin\left(x - \frac{\pi}{6}\right) = -\sin x$

ב.  $[0 : \pi]$ ,  $\sin\left(2x + \frac{2}{9}\pi\right) = -\cos 2x$

ג.  $[0 : \pi]$ ,  $\sin 4x = -\cos(\pi - x)$

ד.  $\left[-\frac{\pi}{2} : \frac{\pi}{2}\right]$ ,  $\tan x = -\tan 2x$

(7) פתור את המשוואות הבאות בתחום שלידן (זהויות של זווית כפולה):

א.  $-\pi \leq x \leq \pi$ ,  $\sin 2x + \cos^2 x = 0$

ב.  $[-\pi : \pi]$ ,  $\cos 4x + 1 = 3 \sin 2x$

ג.  $-\frac{\pi}{2} \leq x \leq \frac{\pi}{2}$ ,  $2 \sin^2 x = \cos 2x + 2$

ד.  $0 \leq x \leq \pi$ ,  $\cos 4x + \sin^2 x = 1$

**תשובות סופיות:**

- (1) א.  $\frac{\pi}{6}$     ב.  $\frac{\pi}{2}$     ג.  $\frac{5\pi}{12}$     ד.  $\frac{2\pi}{3}$     ה.  $\frac{7\pi}{6}$   
 ו.  $\frac{7\pi}{4}$     ז.  $\frac{\pi}{10}$     ח.  $\frac{19\pi}{12}$     ט.  $-\frac{\pi}{12}$     י.  $-\frac{4\pi}{9}$   
 יא.  $\frac{17\pi}{6}$     יב.  $-\frac{13\pi}{6}$
- (2) א.  $180^\circ$     ב.  $360^\circ$     ג.  $720^\circ$     ד.  $270^\circ$     ה.  $90^\circ$   
 ו.  $45^\circ$     ז.  $30^\circ$     ח.  $10^\circ$     ט.  $130^\circ$     י.  $285^\circ$   
 יא.  $210^\circ$     יב.  $405^\circ$
- (3) א.  $\frac{\pi}{18}, \frac{5\pi}{18}$     ב.  $x = \frac{5\pi}{6}$     ג.  $x = \frac{\pi}{2}$     ד.  $x = \frac{\pi}{4}, \frac{\pi}{2}$   
 ה.  $x = 0$     ו.  $x = \frac{2\pi}{9}$     ז.  $x = 0.0875\pi$     ח.  $x = 0.224\pi$
- (4) א.  $x = \frac{\pi}{3}$     ב.  $\phi$     ג.  $x = 0.398\pi, 0.602\pi$     ד.  $\phi$   
 ה.  $x = 0, 0.437\pi$     ו.  $x = \frac{\pi}{6}, \frac{5\pi}{6}$
- ז.  $x = -\frac{\pi}{4}, -0.615\pi$     ח.  $x = 0.352\pi, 0.437\pi, 1.352\pi, 1.437\pi$
- (5) א.  $x = \frac{\pi}{8}$     ב.  $x = 0, 0.42\pi, \pi$     ג.  $x = \frac{\pi}{3}, \frac{5\pi}{3}$
- (6) א.  $x = \frac{\pi}{12}, -\frac{11\pi}{12}$     ב.  $x = \frac{23\pi}{72}, \frac{59\pi}{72}$
- ג.  $x = \frac{\pi}{10}, \frac{\pi}{6}, \frac{\pi}{2}, \frac{5\pi}{6}, \frac{9\pi}{10}$     ד.  $x = \pm \frac{\pi}{3}, 0$
- (7) א.  $x = \pm \frac{\pi}{2}, -0.148\pi, 0.852\pi$     ב.  $x = -\frac{7\pi}{12}, \frac{\pi}{12}, \frac{5\pi}{12}, \frac{11\pi}{12}$   
 ג.  $x = \pm \frac{\pi}{3}$     ד.  $x = 0, 0.38\pi, 0.61\pi, \pi$

## אי שוויונים טריגונומטריים:

### סיכום כללי:

- כדי לפתור אי-שוויון טריגונומטרי בתחום מסוים נבצע את השלבים הבאים:
1. נהפוך את סימן אי השוויון לסימן שוויון ונפתור את המשוואה המתקבלת.
  2. נסדר את כל הפתרונות על ציר מספרים ונבחר ערך בכל תחום.
  3. נציב את הערכים באי השוויון המקורי ונאמר כי:
    - אם מתקבל פסוק אמת אז תחום זה מהווה פתרון של אי השוויון.
    - אם מתקבל פסוק שקר אז תחום זה אינו פתרון של אי השוויון.
  4. נרכז את כל התחומים ונכתוב את הפתרון המלא.

### הערה:

במידה והמשוואה אינה מוגדרת עבור ערך מסוים הערך הזה מוכנס גם לציר המספרים.

### שאלות:

פתור את אי השוויונים הבאים בתחום הרשום לידם:

$$[0, 1.5\pi] \quad 2\cos x - \sqrt{3} \geq 0 \quad \text{(2)} \qquad [0, 180^\circ] \quad \sin x < \frac{1}{2} \quad \text{(1)}$$

$$[0, \pi] \quad \sin x + \sin 2x + \sin 3x < 0 \quad \text{(4)} \qquad (-90^\circ, 90^\circ) \quad 2\cos^2 x + \sin x \geq 1 \quad \text{(3)}$$

$$(0 < x < \pi) \quad \sin x + \sqrt{3}\cos x \geq 1 \quad \text{(6)} \qquad [0^\circ, 180^\circ] \quad 1 < 2\sin(x + 10^\circ) < \sqrt{3} \quad \text{(5)}$$

$$(-\pi < x < \pi) \quad |\tan(x)| > \frac{1}{\sqrt{3}} \quad \text{(8)} \qquad [0, 2\pi] \quad \tan x + \cot x > 0 \quad \text{(7)}$$

### תשובות סופיות:

$$. 0^\circ \leq x < 30^\circ, 150^\circ \leq x \leq 180^\circ \quad (1)$$

$$. 0 \leq x \leq \frac{\pi}{6} \quad (2)$$

$$. -30^\circ \leq x < 90^\circ \quad (3)$$

$$. \frac{\pi}{2} < x < \frac{2\pi}{3} \quad (4)$$

$$. 20^\circ < x < 50^\circ, 110^\circ < x < 140^\circ \quad (5)$$

$$. 0 < x \leq \frac{\pi}{2} \quad (6)$$

$$. 0 < x < \frac{\pi}{2}, \pi < x < \frac{3}{2}\pi \quad (7)$$

$$. -\frac{5\pi}{6} < x < -\frac{\pi}{6}, x \neq -\frac{\pi}{2} : \text{או} \frac{\pi}{6} < x < \frac{5\pi}{6}, x \neq \frac{\pi}{2} \quad (8)$$

# מבוא לשיטות כמותיות בניהול

פרק 10 - חשבון דיפרנציאלי - הפונקציה הממשית - תכונות בסיסיות  
ופונקציות נפוצות

## תוכן העניינים

1. פונקציה - הגדרה ותכונות בסיסיות ..... (ללא ספר)
2. הפונקציה הלינארית ..... (ללא ספר)
3. הפונקציה הריבועית ..... (ללא ספר)
4. הפונקציה המעריכית ..... (ללא ספר)
5. הפונקציה הלוגריתמית ..... (ללא ספר)
6. פונקציות מפורסמות נוספות ..... (ללא ספר)
7. הזזות שיקופים מתיחות וכיווצים של פונקציה ..... (ללא ספר)
8. הפונקציות הטריגונומטריות ..... (ללא ספר)

# מבוא לשיטות כמותיות בניהול

פרק 11 - חשבון דיפרנציאלי - גבול של פונקציה

תוכן העניינים

130	1. הסבר כללי	(ללא ספר)
131	2. הצבה	
132	3. צמצום	
133	4. הכפלה בצמוד	
136	5. גבולות טריגונומטריים	
137	6. פונקציה שואפת לאינסוף	
139	7. איקס שואף לאינסוף	
	8. הגבול של אוילר	

## הצבה

### שאלה

חשבו את הגבולות הבאים:

א.  $\lim_{x \rightarrow 4} x^2 + x + 1$

ב.  $\lim_{x \rightarrow 10} \frac{x+1}{x+2}$

ג.  $\lim_{x \rightarrow 1^+} \sqrt{x+3}$

ד.  $\lim_{x \rightarrow 100} 20$

### תשובה

א. 21      ב.  $\frac{11}{12}$       ג. 2      ד. 20

## צמצום

---

### שאלות

חשבו את הגבולות הבאים :

$$\lim_{x \rightarrow -5} \frac{2x^2 - 50}{2x^2 + 3x - 35} \quad (2)$$

$$\lim_{x \rightarrow 3} \frac{x^2 - x - 6}{x^2 - 9} \quad (1)$$

$$\lim_{x \rightarrow 1} \frac{x^n - x}{x - 1} \quad (4)$$

$$\lim_{x \rightarrow 1} \frac{x^7 - x}{x - 1} \quad (3)$$

$$\lim_{x \rightarrow 2} \frac{x^4 - 16}{x - 2} \quad (6)$$

$$\lim_{x \rightarrow \frac{1}{2}} \frac{2x^2 - 5x + 2}{6x^2 - 5x + 1} \quad (5)$$

$$\lim_{x \rightarrow 3} \frac{x^3 - 27}{x - 3} \quad (8)$$

$$\lim_{x \rightarrow -1} \frac{x^3 + 1}{x + 1} \quad (7)$$

$$\lim_{x \rightarrow -1} \frac{\sqrt[5]{x} + 1}{x + 1} \quad (10)$$

$$\lim_{x \rightarrow 4} \frac{x^2 - 16}{x^3 - 4x^2 + x - 4} \quad (9)$$

### תשובות סופיות

-3 (5)	$n-1$ (4)	6 (3)	$\frac{10}{8.5}$ (2)	$\frac{5}{6}$ (1)
$\frac{1}{5}$ (10)	$\frac{8}{17}$ (9)	27 (8)	3 (7)	32 (6)

## הכפלה בצמוד

### שאלות

חשבו את הגבולות הבאים :

$$\lim_{x \rightarrow 3} \frac{x-3}{\sqrt{x+1}-2} \quad (2)$$

$$\lim_{x \rightarrow 1} \frac{1-\sqrt{x}}{1-x} \quad (1)$$

$$\lim_{x \rightarrow 1} \frac{\sqrt{x^2+x+2}-2}{x^2-1} \quad (4)$$

$$\lim_{x \rightarrow 3} \frac{3-\sqrt{x+6}}{2x-6} \quad (3)$$

$$\lim_{x \rightarrow 1} \frac{2-\sqrt{3x+1}}{1-\sqrt{2x-1}} \quad (6)$$

$$\lim_{x \rightarrow 4} \frac{\sqrt{2x+1}-\sqrt{x+5}}{x-4} \quad (5)$$

$$\lim_{x \rightarrow -2} \frac{\sqrt{x^2+5}-3}{\sqrt{x^2+x+2}+x} \quad (8)$$

$$\lim_{x \rightarrow 1} \frac{1-\sqrt[3]{x}}{1-x} \quad (7)$$

$$\lim_{x \rightarrow 0} \frac{\sqrt{1+\sqrt[3]{x}+x}-1}{\sqrt[3]{x}} \quad (9)$$

### תשובות סופיות

$$\frac{3}{8} \quad (4) \qquad -\frac{1}{12} \quad (3) \qquad 4 \quad (2) \qquad \frac{1}{2} \quad (1)$$

$$-\frac{8}{3} \quad (8) \qquad \frac{1}{3} \quad (7) \qquad \frac{3}{4} \quad (6) \qquad \frac{1}{6} \quad (5)$$

$$\qquad \qquad \qquad \qquad \qquad \qquad \qquad \qquad \qquad \frac{1}{2} \quad (9)$$

## גבולות טריגונומטריים

---

### שאלות

חשבו את הגבולות הבאים (היעזרו בגבול הטריגונומטרי  $\lim_{x \rightarrow 0} \frac{\sin x}{x} = 1$ ):

$$\lim_{x \rightarrow 0} \frac{\sin(3x)}{\sin(4x)} \quad (2)$$

$$\lim_{x \rightarrow 0} \frac{\sin(3x)}{4x} \quad (1)$$

$$\lim_{x \rightarrow 0} \frac{1 - \cos x}{x^2} \quad (4)$$

$$\lim_{x \rightarrow 0} \frac{x \cos x}{\sin 2x} \quad (3)$$

$$\lim_{x \rightarrow 0} \frac{\sqrt{1 + \sin x} - \sqrt{\cos x}}{x} \quad (6)$$

$$\lim_{x \rightarrow 0} \frac{\tan x - \sin x}{x^3} \quad (5)$$

$$\lim_{x \rightarrow 0} \frac{3 \sin x - \sin 3x}{x^3} \quad (8)$$

$$\lim_{x \rightarrow 0} \frac{1 - \cos(1 - \cos x)}{x^4} \quad (7)$$

$$\lim_{x \rightarrow 1} \frac{\sin(1-x)}{x^2 - 1} \quad (10)$$

$$\lim_{x \rightarrow 0} \frac{1 - \sqrt{\cos x}}{x^2} \quad (9)$$

$$\lim_{x \rightarrow a} \frac{\cos x - \cos a}{x - a} \quad (12)$$

$$\lim_{x \rightarrow a} \frac{\sin x - \sin a}{x - a} \quad (11)$$

$$\lim_{x \rightarrow \pi} \frac{\sin 4x}{\sin 10x} \quad (14)$$

$$\lim_{x \rightarrow a} \frac{\tan x - \tan a}{x - a} \quad (13)$$

$$\lim_{x \rightarrow 1} (1-x) \tan \frac{\pi x}{2} \quad (16)$$

$$\lim_{x \rightarrow \frac{\pi}{4}} \tan 2x \tan \left( \frac{\pi}{4} - x \right) \quad (15)$$

$$\lim_{x \rightarrow 0} \frac{\sqrt{\cos x} - \sqrt[3]{\cos x}}{\sin^2 x} \quad (18)$$

$$\lim_{x \rightarrow 0} \frac{\sqrt{1 + x \sin x} - \cos x}{\sin^2 x} \quad (17)$$

## תשובות סופיות

$\frac{1}{2}$ (5)	$\frac{1}{2}$ (4)	$\frac{1}{2}$ (3)	$\frac{3}{4}$ (2)	$\frac{3}{4}$ (1)
	$\frac{1}{4}$ (9)	4 (8)	$\frac{1}{8}$ (7)	$\frac{1}{2}$ (6)
$\frac{1}{\cos^2 a}$ (13)	$-\sin a$ (12)	$\cos a$ (11)	$-\frac{1}{2}$ (10)	
1 (17)	$\frac{2}{\pi}$ (16)	$\frac{1}{2}$ (15)	$\frac{4}{10}$ (14)	$-\frac{1}{12}$ (18)

## זהויות טריגונומטריות שכדאי להכיר

$$\left\{ \begin{array}{l} \sin a + \sin b = 2 \sin \frac{a+b}{2} \cos \frac{a-b}{2} \\ \sin a - \sin b = 2 \sin \frac{a-b}{2} \cos \frac{a+b}{2} \\ \cos a + \cos b = 2 \cos \frac{a+b}{2} \cos \frac{a-b}{2} \\ \cos a - \cos b = -2 \sin \frac{a-b}{2} \sin \frac{a+b}{2} \\ \tan a + \tan b = \frac{\sin(a+b)}{\cos a \cos b} \\ \tan a - \tan b = \frac{\sin(a-b)}{\cos a \cos b} \end{array} \right.$$

$$\begin{cases} \sin(a+b) = \sin a \cos b + \cos a \sin b \\ \sin(a-b) = \sin a \cos b - \cos a \sin b \\ \cos(a+b) = \cos a \cos b - \sin a \sin b \\ \cos(a-b) = \cos a \cos b + \sin a \sin b \end{cases}$$

$$\begin{cases} \sin \pi n = 0 \\ \cos \pi n = (-1)^n \end{cases}$$

$$\begin{cases} \sin\left(a + \frac{\pi}{2}\right) = \cos a \\ \cos\left(a + \frac{\pi}{2}\right) = -\sin a \end{cases}$$

## פונקציה שואפת לאינסוף

### שאלות

חשבו את הגבולות הבאים :

$$\lim_{x \rightarrow 2} \frac{(x-1)^2}{x-2} \quad (2)$$

$$\lim_{x \rightarrow 0} \frac{x^2 + 4}{x} \quad (1)$$

$$\lim_{x \rightarrow 2} \frac{x^2 - 1}{(x-2)(x-5)} \quad (4)$$

$$\lim_{x \rightarrow 2} \frac{-x^2}{(2-x)^2} \quad (3)$$

$$\lim_{x \rightarrow 2} -\frac{1}{2} \ln(2-x) \quad (6)$$

$$\lim_{x \rightarrow 0^+} \frac{\ln x}{x} \quad (5)$$

$$\lim_{x \rightarrow 0} e^{\frac{1}{x}} \quad (8)$$

$$\lim_{x \rightarrow 0^+} \left( (\ln x)^2 + 2 \ln x - 3 \right) \quad (7)$$

$$\lim_{x \rightarrow 0^-} \frac{1}{1 + 2^{\frac{1}{x}}} \quad (10)$$

$$\lim_{x \rightarrow 0^+} \frac{1}{1 + 2^{\frac{1}{x}}} \quad (9)$$

$$\lim_{x \rightarrow 0^+} \ln x \cdot \cot x \quad (12)$$

$$\lim_{x \rightarrow 0} \frac{1}{1 + 2^{\frac{1}{x}}} \quad (11)$$

$$\lim_{x \rightarrow 1} \frac{\sqrt[3]{x-1} - \sqrt[4]{x-1}}{\sqrt{x-1}} \quad (13)$$

### תשובות סופיות

$\phi$ (4)	$-\infty$ (3)	$\phi$ (2)	$\phi$ (1)
$\phi$ (8)	$\infty$ (7)	$\infty$ (6)	$-\infty$ (5)
$-\infty$ (12)	$\phi$ (11)	1 (10)	0 (9)
			$-\infty$ (13)

## x שואף לאינסוף

### שאלות

חשבו את הגבולות הבאים :

$$\lim_{x \rightarrow -\infty} \arctan x + e^x \quad (2)$$

$$\lim_{x \rightarrow -\infty} \frac{x^4 + 2x^2 + 6}{3x^3 + 10x} \quad (4)$$

$$\lim_{x \rightarrow \infty} \left( \frac{x^2 - 5x + 6}{2x + 10} - \frac{x}{2} \right) \quad (6)$$

$$\lim_{x \rightarrow -\infty} \frac{\sqrt{x^2 + 1}}{x} \quad (8)$$

$$\lim_{x \rightarrow \infty} \frac{\sqrt[3]{x^4 + 2x^2 + 6 + 27x^6}}{\sqrt{3x^3 + 10x + 4x^4}} \quad (10)$$

$$\lim_{x \rightarrow \infty} \frac{16^x + 4^{x+1}}{2^{4x+2} + 2^{x+3}} \quad (12)$$

$$\lim_{x \rightarrow \infty} \frac{4 \cdot 9^x + 3^{x+1}}{81^{0.5x} + 3^{x+3}} \quad (14)$$

$$\lim_{x \rightarrow \infty} \sqrt{\frac{4x^2 + 2}{x^2 + 1000x}} \quad (16)$$

$$\lim_{x \rightarrow \infty} e^{\frac{x^4 + 2x^2 + 6}{3x^4 + 10x}} \quad (18)$$

$$\lim_{x \rightarrow \infty} \sqrt[5]{\frac{ax + 1}{bx + 2}} \quad (20)$$

$$\lim_{x \rightarrow \infty} (\sqrt{x^2 + kx} - x) \quad (22)$$

$$\lim_{x \rightarrow -\infty} (\sqrt{x^2 + x + 1} + x) \quad (24)$$

$$\lim_{x \rightarrow \infty} (\sqrt{x^2 + ax} - \sqrt{x^2 + bx}) \quad (26)$$

$$\lim_{x \rightarrow \infty} (e^{-x})^{\ln x} \quad (1)$$

$$\lim_{x \rightarrow \infty} \frac{4x^2 + 2}{x^2 + 1000x} \quad (3)$$

$$\lim_{x \rightarrow \infty} \frac{x^4 + 2x^2 + 6}{3x^5 + 10x} \quad (5)$$

$$\lim_{x \rightarrow \infty} \frac{\sqrt{x^2 + 1}}{x} \quad (7)$$

$$\lim_{x \rightarrow -\infty} \frac{\sqrt{9x^6 - 5x}}{x^3 - 2x^2 + 1} \quad (9)$$

$$\lim_{x \rightarrow \infty} \frac{\sqrt{x+2} - \sqrt{3x-3}}{\sqrt{4x+1} - \sqrt{5x-1}} \quad (11)$$

$$\lim_{x \rightarrow -\infty} \frac{16^x + 4^{\frac{x+1}{2}}}{2^{4x+2} + 2^{x+3}} \quad (13)$$

$$\lim_{x \rightarrow -\infty} \frac{4 \cdot 9^x + 3^{x+1}}{81^{0.5x} + 3^{x+3}} \quad (15)$$

$$\lim_{x \rightarrow \infty} \ln \left( \frac{3x^3 - 5x - 1}{x^3 - 2x^2 + 1} \right) \quad (17)$$

$$\lim_{x \rightarrow -\infty} \sin \left( \frac{x^4 + 2x^2 + 6}{3x^5 + 10x} \right) \quad (19)$$

$$\lim_{x \rightarrow \infty} (\sqrt{x^2 + 5x} - x) \quad (21)$$

$$\lim_{x \rightarrow \infty} (\sqrt{x^2 + x + 1} - x) \quad (23)$$

$$\lim_{x \rightarrow \infty} (\sqrt{x^4 + x^2 + 1} - x^2) \quad (25)$$

$$\lim_{x \rightarrow \infty} \frac{1 - \left(1 - \frac{1}{x}\right)^5}{1 - \left(1 - \frac{1}{x}\right)^4} \quad (28)$$

$$\lim_{x \rightarrow \infty} \frac{(x-4)^{10} (3x^2-1)^4}{x^2 (2x-5)^{10} (x^3+1)^2} \quad (27)$$

$$\lim_{x \rightarrow \infty} [\ln(5 \cdot 2^{x+2} + 6 \cdot e^{x+1}) - x] \quad (29)$$

## תשובות סופיות

$-\infty$ (4)	4 (3)	$-\frac{\pi}{2}$ (2)	0 (1)
-1 (8)	1 (7)	-5 (6)	0 (5)
$\frac{1}{4}$ (12)	$\frac{1-\sqrt{3}}{2-\sqrt{5}}$ (11)	1.5 (10)	-3 (9)
2 (16)	$\frac{1}{9}$ (15)	4 (14)	0 (13)
	0 (19)	$e^{\frac{1}{3}}$ (18)	$\ln 3$ (17)
$-\infty: b=0, a < 0$ : א . $\infty: b=0, a > 0$ א . $\lim = \sqrt[5]{\frac{a}{b}}: b \neq 0$ א (20)			
$-\frac{1}{2}$ (24)	$\frac{1}{2}$ (23)	$\frac{k}{2}$ (22)	2.5 (21)
$\frac{5}{4}$ (28)	$\frac{3^4}{2^{10}}$ (27)	$\frac{a-b}{2}$ (26)	$\frac{1}{2}$ (25)
			$\ln(6e)$ (29)

## הגבול של אוילר

---

### שאלות

חשבו את הגבולות הבאים (היעזרו בגבול של אוילר:  $\lim_{x \rightarrow \infty} \left(1 + \frac{1}{x}\right)^x = \lim_{x \rightarrow 0} (1+x)^{\frac{1}{x}} = e$ ):

$$\lim_{x \rightarrow \infty} \left(1 + \frac{1}{x^2}\right)^x \quad (2) \qquad \lim_{x \rightarrow \infty} \left(1 + \frac{1}{2x}\right)^x \quad (1)$$

$$\lim_{x \rightarrow \infty} \left(1 - \frac{1}{x^2}\right)^{x^2-1} \quad (4) \qquad \lim_{x \rightarrow \infty} \left(\frac{x+2}{x}\right)^x \quad (3)$$

$$\lim_{x \rightarrow 0} (1 + \sin x)^{\frac{1}{x}} \quad (6) \qquad \lim_{x \rightarrow \infty} \left(\frac{2x+3}{2x-3}\right)^x \quad (5)$$

$$\lim_{x \rightarrow \infty} \left(\frac{x^2 + 4x + 1}{x^2 + x + 2}\right)^{10x} \quad (8) \qquad \lim_{x \rightarrow \infty} \left(\frac{x^2 + x + 1}{x^2 + x + 4}\right)^{4x^2} \quad (7)$$

$$\lim_{x \rightarrow \infty} \left(1 + \tan \frac{1}{x}\right)^x \quad (9)$$

### תשובות סופיות

$$e^3 \quad (5) \qquad e^{-1} \quad (4) \qquad e^2 \quad (3) \qquad 1 \quad (2) \qquad e^{\frac{1}{2}} \quad (1)$$

$$e \quad (9) \qquad e^{30} \quad (8) \qquad e^{-12} \quad (7) \qquad e \quad (6)$$

# מבוא לשיטות כמותיות בניהול

פרק 12 - חשבון דיפרנציאלי - נגזרות ומשיקים

תוכן העניינים

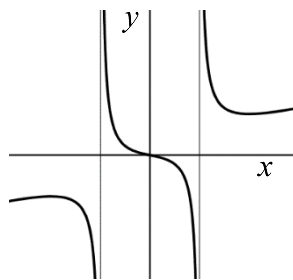
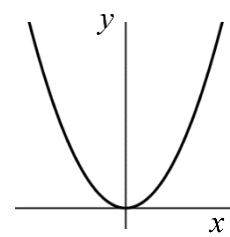
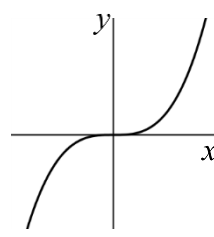
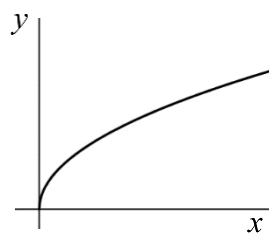
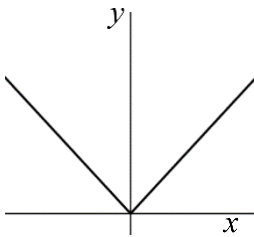
140	1. הקדמה כללית
141	2. גזירת פונקציות
147	3. מציאת שיפוע המשיק לגרף הפונקציה
148	4. מציאת משוואת המשיק לגרף הפונקציה
151	5. שאלות עם פרמטרים
153	6. שאלות העוסקות במציאת משוואת משיק מנקודה חיצונית

## הקדמה כללית:

### סיכום כללי:

### פונקציות נפוצות:

הפונקציה  $f(x) = x^2$  : הפונקציה  $f(x) = x^3$  : הפונקציה  $f(x) = \sqrt{x}$  : הפונקציה  $f(x) = |x|$  :



פונקציה עם מכנה, למשל:  $f(x) = \frac{5x^3 + 4x}{x^2 - 1}$  :

### שיפוע של פונקציה:

- השיפוע  $m$  של פונקציה  $f(x)$  בנקודה  $A(x_1, y_1)$  שעל הפונקציה הוא ערך הנגזרת בנקודה  $A(x_1, y_1)$ , כלומר:  $m = f'(x_1)$ .
- השיפוע של המשיק לפונקציה  $f(x)$  בנקודה  $A(x_1, y_1)$  שעל הפונקציה שווה לשיפוע הפונקציה בנקודה  $A(x_1, y_1)$ .
- משוואת המשיק לפונקציה  $f(x)$  בנקודה  $A(x_1, y_1)$  שעליה מתקבלת על ידי הנוסחה למציאת ישר:  $y - y_1 = m(x - x_1)$ .

### הנגזרת:

לכל פונקציה  $f(x)$  קיימת פונקציה, הנקראת פונקציית הנגזרת (או רק "הנגזרת") ומסומנת  $f'(x)$ , המתקבלת ממנה על פי כללי הגזירה.

## גזירת פונקציות:

### סיכום כללי:

#### כללי הגזירה:

- כלל גזירה מס' 1:  $f(x) = x^n \Rightarrow f'(x) = n \cdot x^{n-1}$
- כלל גזירה מס' 2 (כפל בקבוע):  $f(x) = ax^n \Rightarrow f'(x) = n \cdot ax^{n-1}$
- כלל גזירה מס' 3 (נגזרת של קבוע):  $f(x) = a \Rightarrow f'(x) = 0$
- כלל גזירה מס' 4 (סכום והפרש):  $f(x) = u \pm v \Rightarrow f'(x) = u' \pm v'$
- כלל גזירה מס' 5 (פונקציה מורכבת):  $f(x) = u^n \Rightarrow f'(x) = n \cdot u^{n-1} \cdot u'$
- כלל גזירה מס' 6 (נגזרת של  $\frac{1}{x}$ ):  $f(x) = \frac{1}{x} \Rightarrow f'(x) = -\frac{1}{x^2}$
- כלל גזירה מס' 7 (מכפלה):  $f(x) = u \cdot v \Rightarrow f'(x) = u'v + v'u$
- כלל גזירה מס' 8 (מנה):  $f(x) = \frac{u}{v} \Rightarrow f'(x) = \frac{u'v - uv'}{v^2}$
- כלל גזירה מס' 9 (שורש):  $f(x) = \sqrt{x} \Rightarrow f'(x) = \frac{1}{2\sqrt{x}}$

### שאלות:

#### (1) גזור את הפונקציות הבאות:

- |                             |                             |                             |
|-----------------------------|-----------------------------|-----------------------------|
| א. $f(x) = x^3$             | ב. $f(x) = x^7$             | ג. $f(x) = x^2$             |
| ד. $f(x) = x$               | ה. $f(x) = x^{-3}$          | ו. $f(x) = x^{-1}$          |
| ז. $f(x) = x^{\frac{1}{2}}$ | ח. $f(x) = x^{\frac{1}{3}}$ | ט. $f(x) = x^{\frac{3}{4}}$ |

#### (2) גזור את הפונקציות הבאות:

- |                           |                              |                                       |
|---------------------------|------------------------------|---------------------------------------|
| א. $f(x) = 2x^3$          | ב. $f(x) = 3x^7$             | ג. $f(x) = \frac{1}{2}x^4$            |
| ד. $f(x) = \frac{x^6}{7}$ | ה. $f(x) = 8x$               | ו. $f(x) = 3x^{-2}$                   |
| ז. $f(x) = \frac{4}{x}$   | ח. $f(x) = 6x^{\frac{1}{2}}$ | ט. $f(x) = \frac{x^{\frac{2}{3}}}{3}$ |

3) גזור את הפונקציות הבאות:

א.  $f(x) = 12$       ב.  $f(x) = \frac{7}{8}$

4) גזור את הפונקציות הבאות:

א.  $f(x) = x^3 + 2x^2 - 3x + 5$       ב.  $f(x) = \frac{1}{4}x^4 - \frac{x^3}{6} + \frac{3x}{4} - \frac{2}{5}$

ג.  $f(x) = 7x^2 + 23x - 6$       ד.  $f(x) = 6x^2 + 8x + 4$

ה.  $f(x) = \frac{1}{2}x^2 - x^3$       ו.  $f(x) = \frac{x^4}{8} + 67$

5) גזור את הפונקציות הבאות:

א.  $f(x) = (5x - 2)^3$       ב.  $f(x) = (x^3 + 6)^5$       ג.  $f(x) = 3(x - x^2)^2$

ד.  $f(x) = \frac{(5-x)^3}{4}$       ה.  $f(x) = \frac{2(x+1)^4}{3}$

6) גזור את הפונקציות הבאות:

א.  $f(x) = \frac{3}{x}$       ב.  $f(x) = -\frac{2}{x}$       ג.  $f(x) = \frac{1}{x^2}$

ד.  $f(x) = \frac{3}{x^3}$       ה.  $f(x) = \frac{1}{x^2 - 3x}$       ו.  $f(x) = \frac{2}{3-x}$

ז.  $f(x) = \frac{6}{x+5}$

7) גזור את הפונקציות הבאות:

א.  $f(x) = (5x+1)(x-3)$       ב.  $f(x) = (5x+1)^3(x-3)$

ג.  $f(x) = x^3(6-x)^4$       ד.  $f(x) = 3x^2 \cdot x$

ה.  $f(x) = x^2 \cdot x^3$       ו.  $f(x) = x(3x+7)$

ז.  $f(x) = 3x^3(3x-1)$       ח.  $f(x) = (x-2)(2x^2+3)$

ט.  $f(x) = (3x-2)(x^2+10x)$       י.  $f(x) = (3x^4-4x)(2x^2+5x+2)$

יא.  $f(x) = x(x-2)(3x-4)$

8) גזור את הפונקציות הבאות :

א.  $f(x) = (x^2 - 4)^2$

ג.  $f(x) = (x^3 + 2)^2 (x - 1)^3$

ב.  $f(x) = 2x^3 (3x + 5)^2$

ד.  $f(x) = (x^2 + 1)^3 (2x - 1)^2$

9) גזור את הפונקציות הבאות :

א.  $f(x) = \frac{3x - 1}{1 + 2x}$

ד.  $f(x) = \frac{x^2 + 8}{x - 1}$

ב.  $f(x) = \frac{x^2 + 1}{5x - 12}$

ה.  $f(x) = \frac{1}{x}$

ג.  $f(x) = \frac{x^2 - 1}{x^2 + 3}$

ו.  $f(x) = \frac{3}{x^3}$

ז.  $f(x) = \frac{(x - 1)^2}{x + 1}$

י.  $f(x) = \frac{x - 2}{x^2 - 4}$

ח.  $f(x) = \frac{(x^2 + 3)^2}{x^2 - 2}$

ט.  $f(x) = \frac{x^3 - x^2}{2(1 - x)}$

10) גזור את הפונקציות הבאות :

א.  $f(x) = \sqrt{x}$

ד.  $f(x) = (3x + 1)\sqrt{x}$

ב.  $f(x) = 4\sqrt{x + 1}$

ה.  $f(x) = x^2\sqrt{x + 3}$

ג.  $f(x) = \sqrt{x^3 - 1}$

ו.  $f(x) = \frac{x + 3}{\sqrt{x}}$

11) גזור את הפונקציות הבאות :

א.  $f(x) = \sqrt{x + 1}$

ג.  $f(x) = \sqrt{3x^2 + 1}$

ה.  $f(x) = \sqrt{2x^2 + 7x}$

ז.  $f(x) = x^2\sqrt{1 - 2x}$

ט.  $f(x) = \frac{x\sqrt{x^2 + 4}}{2}$

ב.  $f(x) = \sqrt{2x}$

ד.  $f(x) = \sqrt{10 - 3x}$

ו.  $f(x) = 3x^2 - 8\sqrt{x}$

ח.  $f(x) = \frac{\sqrt{x}}{x}$

י.  $f(x) = \frac{x + 3}{\sqrt{1 - x^2}}$

יא.  $f(x) = \frac{2x^3 - x^2 + x - 5\sqrt{x}}{x\sqrt{x}}$

יב.  $f(x) = \sqrt{\frac{3 - x}{x}}$

יד.  $f(x) = \frac{x^2 + 7}{\sqrt{x^2 - 5}}$

יג.  $f(x) = \sqrt{\frac{1 + x^2}{1 - x}}$

$$f(x) = \frac{\sqrt{x+1}}{x-1} \quad \text{ט.ז.}$$

$$f(x) = \frac{\sqrt{x}}{x-1} \quad \text{ט.ו.}$$

**(12)** גזור את הפונקציות הבאות:

$$f(x) = \frac{x-2a}{x-4a} \quad \text{ג.} \quad f(x) = \frac{ax^2}{3} - \frac{x}{b} + c \quad \text{ב.}$$

$$f(x) = ax^4 - bx \quad \text{א.}$$

$$f(x) = a\sqrt{bx^2 + c} \quad \text{ד.}$$

**(13)** גזור פעמיים את הפונקציות הבאות:

$$f(x) = \frac{x^2 - 5x + 6}{2x + 10} \quad \text{ב.}$$

$$f(x) = \frac{x^2 + 2x + 4}{2x} \quad \text{א.}$$

$$f(x) = \frac{x^3}{x^2 - 4} \quad \text{ד.}$$

$$f(x) = \frac{2x^2}{(x+1)^2} \quad \text{ג.}$$

$$f(x) = \left(\frac{x+1}{x-1}\right)^3 \quad \text{ו.}$$

$$f(x) = \frac{x^3}{(x+1)^2} \quad \text{ה.}$$

**תשובות סופיות:**

- (1) א.  $3x^2$    ב.  $7x^6$    ג.  $2x$    ד. 1   ה.  $-\frac{3}{x^4}$    ו.  $-\frac{1}{x^2}$
- ז.  $\frac{1}{2\sqrt{x}}$    ח.  $\frac{1}{3\sqrt[3]{x^2}}$    ט.  $\frac{3}{4\sqrt[4]{x}}$
- (2) א.  $6x^2$    ב.  $21x^6$    ג.  $2x^3$    ד.  $\frac{6x^5}{7}$    ה. 8
- ו.  $-\frac{6}{x^3}$    ז.  $-\frac{4}{x^2}$    ח.  $\frac{3}{\sqrt{x}}$    ט.  $\frac{2}{9\sqrt[3]{x}}$
- (3) א. 0   ב. 0
- (4) א.  $3x^2 + 4x - 3$    ב.  $x^3 - \frac{x^2}{2} + \frac{3}{4}$    ג.  $14x + 23$    ד.  $12x + 8$    ה.  $x - 3x^2$    ו.  $0.5x^3$
- (5) א.  $15(5x - 2)^2$    ב.  $15x^2(x^3 + 6)^4$    ג.  $6(x - x^2)(1 - 2x)$
- ד.  $-\frac{3}{4}(5 - x)^2$    ה.  $\frac{8(x + 1)^3}{3}$
- (6) א.  $-\frac{3}{x^2}$    ב.  $\frac{2}{x^2}$    ג.  $-\frac{2}{x^3}$    ד.  $-\frac{9}{x^4}$    ה.  $-\frac{2x - 3}{(x^2 - 3x)^2}$
- ו.  $\frac{2}{(3 - x)^2}$    ז.  $-\frac{6}{(x + 5)^2}$
- (7) א.  $10x - 14$    ב.  $(5x + 1)^2(20x - 44)$    ג.  $x^2(6 - x)^3(18 - 7x)$
- ד.  $9x^2$    ה.  $5x^4$    ו.  $6x + 7$    ז.  $36x^3 - 9x^2$    ח.  $6x^2 - 8x + 3$
- ט.  $9x^2 + 56x - 20$    י.  $36x^5 + 75x^4 + 24x^3 - 24x^2 - 40x - 8$    יא.  $9x^2 - 20x + 8$
- (8) א.  $4x(x^2 - 4)$    ב.  $30x^2(x + 1)(3x + 5)$    ג.  $3(x - 1)^2(x^3 + 2)(3x^3 - 2x^2 + 2)$
- ד.  $2(2x - 1)(x^2 + 1)^2(8x^2 - 3x + 2)$
- (9) א.  $\frac{5}{(1 + 2x)^2}$    ב.  $\frac{5x^2 - 24x - 5}{(5x - 12)^2}$    ג.  $\frac{8x}{(x^2 + 3)^2}$    ד.  $\frac{(x - 4)(x + 2)}{(x - 1)^2}$
- ה.  $-\frac{1}{x^2}$    ו.  $-\frac{9}{x^4}$    ז.  $\frac{x^2 + 2x - 3}{(x + 1)^2}$
- ח.  $\frac{2x(x^2 + 3)(x^2 - 7)}{(x^2 - 2)^2}$    ט.  $-x$    י.  $-\frac{1}{(x + 2)^2}$

$$(10) \quad \text{א. } \frac{1}{2\sqrt{x}} \quad \text{ב. } \frac{2}{\sqrt{x+1}} \quad \text{ג. } \frac{3x^2}{2\sqrt{x^3-1}} \quad \text{ד. } \frac{9x+1}{2\sqrt{x}} \quad \text{ה. } \frac{x(5x+12)}{2\sqrt{x+3}}$$

$$\text{ו. } \frac{x-3}{2x\sqrt{x}}$$

$$(11) \quad \text{א. } \frac{1}{2\sqrt{x+1}} \quad \text{ב. } \frac{1}{\sqrt{2x}} \quad \text{ג. } \frac{3x}{\sqrt{3x^2+1}} \quad \text{ד. } -\frac{3}{2\sqrt{10-3x}} \quad \text{ה. } \frac{4x+7}{2\sqrt{2x^2+7x}}$$

$$\text{ו. } 6x - \frac{4}{\sqrt{x}} \quad \text{ז. } \frac{2x-5x^2}{\sqrt{1-2x}} \quad \text{ח. } -\frac{1}{2x\sqrt{x}} \quad \text{ט. } \frac{x^2+2}{\sqrt{x^2+4}} \quad \text{י. } \frac{1-3x}{(1-x^2)^{1.5}}$$

$$\text{יא. } 3\sqrt{x} - \frac{1}{2\sqrt{x}} - \frac{1}{2x\sqrt{x}} + \frac{5}{x^2} \quad \text{יב. } -\frac{3}{2x\sqrt{3x-x^2}} \quad \text{יג. } \frac{-x^2+2x+1}{2(1-x)^{1.5}\sqrt{1+x^2}}$$

$$\text{יד. } \frac{x^3-17x}{(x^2-5)^{1.5}} \quad \text{טו. } -\frac{x+1}{2\sqrt{x}(x-1)^2} \quad \text{טז. } -\frac{x+3}{2(x-1)^2\sqrt{x+1}}$$

$$(12) \quad \text{א. } 4ax^3 - b \quad \text{ב. } \frac{2ax}{3} - \frac{1}{b} \quad \text{ג. } \frac{-2a}{(x-4a)^2} \quad \text{ד. } \frac{abx}{\sqrt{bx^2+c}}$$

$$(13) \quad \text{א. } f'(x) = \frac{2x^2-8}{4x^2}, f''(x) = \frac{4}{x^3}$$

$$\text{ב. } f'(x) = \frac{2x^2+20x-62}{(2x+10)^2}, f''(x) = \frac{448}{(2x+10)^3}$$

$$\text{ג. } f'(x) = \frac{4x}{(x+1)^3}, f''(x) = \frac{4(1-2x)}{(x+1)^4}$$

$$\text{ד. } f'(x) = \frac{x^2(x^2-12)}{(x^2-4)^2}, f''(x) = \frac{8x(x^2+12)}{(x^2-4)^3}$$

$$\text{ה. } f'(x) = \frac{x^2(x+3)}{(x+1)^3}, f''(x) = \frac{6x}{(x+1)^4}$$

$$\text{ו. } f'(x) = -\frac{6(x+1)^2}{(x-1)^4}, f''(x) = \frac{12(x+1)(x+3)}{(x-1)^5}$$

---

## מציאת שיפוע המשיק לגרף הפונקציה:

---

שאלות:

(14) מצא את שיפוע הפונקציה  $f(x) = 2x^3 - 7x$  בנקודה  $(2, 2)$ .

(15) מצא את שיפוע הפונקציה  $f(x) = \frac{1}{x^2 - 3}$  בנקודה בה  $x = -2$ .

(16) מצא את שיפוע המשיק לפונקציה  $f(x) = 4\sqrt{x}$  בנקודה בה  $x = 1$ .

תשובות סופיות:

$$m = 17 \quad (14)$$

$$m = 4 \quad (15)$$

$$m = 2 \quad (16)$$

## מציאת משוואת המשיק לגרף הפונקציה:

---

שאלות:

(17) מצא את משוואת המשיק לפונקציה  $f(x) = 2(4x+3)^3$  בנקודה בה  $x = -1$ .

(18) מצא את משוואת המשיק לפונקציה  $f(x) = \frac{8}{x+1}$  בנקודה בה  $y = 2$ .

(19) מצא את משוואות המשיקים לפונקציה  $f(x) = x^2 - 2x - 8$  בנקודות החיתוך שלה עם ציר ה- $x$ .

(20) מצא את משוואת המשיק לפונקציה  $f(x) = x^4 - 2x$  ששיפועו 2.

(21) מצא את משוואת המשיק לפונקציה  $f(x) = \frac{x^3 + 3x - 1}{x^2 - 2}$  בנקודה שבה  $x = 1$ .

(22) נתון כי הישר  $2y - 3x = 3$  משיק לגרף הפונקציה  $f(x) = 3\sqrt{x}$ . מצא את נקודת ההשקה.

(23) מצא את משוואת המשיק לפונקציה  $f(x) = \frac{1}{x} + \sqrt{x}$  בנקודה בה  $x = 1$ .

(24) מצא את משוואת המשיק לפונקציה  $f(x) = 3x^2 - 8\sqrt{x}$  בנקודה בה  $x = 4$ .

(25) נתונה הפונקציה הבאה  $f(x) = 4x - 2\sqrt{x}$ .

א. מצא את משוואת המשיק לגרף הפונקציה המקביל לישר  $f(x) = 3x - \frac{1}{2}$ .

ב. מצא את נקודת החיתוך של המשיק עם ציר ה- $x$ .

(26) מצא את משוואת המשיק לפונקציה  $f(x) = \frac{4}{\sqrt{x-1}}$  ששיפועו -2.

(27) מצא את משוואות המשיק לפונקציה  $f(x) = \frac{x-3}{\sqrt{x^2-x+2}}$  בנקודה שבה  $x=2$ .

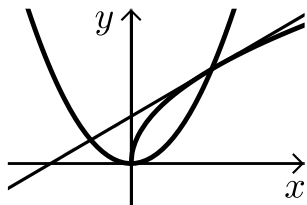
(28) מצא את משוואות המשיקים לפונקציה  $f(x) = \frac{1}{3x^3}$  היוצרים עם הכיוון החיובי של ציר ה- $x$  זווית של  $135^\circ$ .

(29) מצא את משוואות המשיקים המשותפים לפונקציות הבאות:  $y = x^2$ ,  $y = -\frac{1}{4}x^2 - 5$ .

(30) נתונה הפונקציה:  $f(x) = \frac{\sqrt{x^2+3}}{x}$  ונתון הישר:  $y = 2x$ .

- מצא את נקודת החיתוך של הפונקציה והישר הנמצאת ברביע הראשון.
- מצא את משוואות המשיק לגרף הפונקציה בנקודה שמצאת בסעיף הקודם.
- חשב את השטח שנוצר בין המשיק והצירים.

(31) באיור שלפניך מתוארים הגרפים של הפונקציות:  $f(x) = \sqrt{x}$ ,  $g(x) = x^2$ .



- מצא את נקודות החיתוך של הגרפים.
- מצא את משוואות המשיק לגרף הפונקציה  $f(x)$  העובר דרך נקודת החיתוך שמצאת הנמצאת ברביע הראשון.
- מצא את נקודת החיתוך הנוספת של המשיק שמצאת עם גרף הפונקציה  $g(x)$ .

**תשובות סופיות:**

**(17)**  $y = 24x + 22$

**(18)**  $y = -\frac{1}{2}x + 3\frac{1}{2}$

**(19)**  $y = 6x - 24$ ,  $y = -6x - 12$

**(20)**  $y = 2x - 3$

**(21)**  $y = -12x + 9$

**(22)**  $(1, 3)$

**(23)**  $y = -\frac{1}{2}x + 2\frac{1}{2}$

**(24)**  $y = 22x - 56$

**(25)**  $y = 3x - 1$  .א  $\left(\frac{1}{3}, 0\right)$  .ב

**(26)**  $y = -2x + 8$

**(27)**  $y = \frac{11}{16}x - \frac{15}{8}$

**(28)**  $y = -x + 1\frac{1}{3}$ ,  $y = -x - 1\frac{1}{3}$

**(29)**  $y = 2x - 1$ ,  $y = -2x - 1$

**(30)** .א  $(1, 2)$  .ב  $y = -1.5x + 3.5$  .ג  $S = 4\frac{1}{12}$

**(31)** .א  $(0, 0)$ ,  $(1, 1)$  .ב  $y = 0.5x + 0.5$  .ג  $(-0.5, 0.25)$

## שאלות עם פרמטרים:

---

### שאלות:

**(32)** שיפוע המשיק לפונקציה  $f(x) = ax^2 - 4x$  בנקודה שבה  $x = 3$  הוא 8. מצא את ערכו של הפרמטר  $a$  ואת משוואת המשיק.

**(33)** נתונה הפונקציה  $f(x) = \sqrt{ax}$ ,  $(a > 0)$ .

המשיק לפונקציה בנקודה שבה  $x = \frac{1}{2}$  הוא בעל שיפוע 1. מצא את ערך הפרמטר  $a$ .

**(34)** נתונה הפונקציה:  $y = x^3 + a\sqrt{x}$  ( $a$  פרמטר).

שיפוע המשיק לגרף הפונקציה בנקודה שבה  $x = 1$  הוא 5. מצא את ערך הפרמטר  $a$ .

**(35)** נתונה הפונקציה:  $y = 2\sqrt{x} - \frac{A}{x}$  ( $A$  פרמטר).

שיפוע המשיק לגרף הפונקציה בנקודה שבה  $x = 1$  הוא 2. מצא את ערך הפרמטר  $A$ .

**(36)** הישר  $y = 4x + b$  משיק לגרף הפונקציה  $f(x) = \frac{2}{x^2} + 3$ .

מצא את  $b$  ואת נקודת ההשקה.

**(37)** שיפוע המשיק לפונקציה  $f(x) = \frac{2}{ax+3}$  בנקודה שבה  $y = 2$  הוא -4.

מצא את ערכו של הפרמטר  $a$  ואת משוואת המשיק.

**(38)** הישר  $y = ax + \frac{1}{2}$  משיק לגרף הפונקציה  $g(x) = \frac{2}{x+c}$  בנקודה  $x = 0$ .

מצא את ערכי הפרמטרים  $a$  ו- $c$ .

**(39)** הישר  $y = 3x$  משיק לגרף הפונקציה  $f(x) = x\sqrt{x} + b$ .

מצא את  $b$  ואת נקודת ההשקה.

(40) שיפוע המשיק לפונקציה  $f(x) = \frac{a}{\sqrt{bx-1}}$  בנקודה (1, 6) הוא -6.

מצא את ערכי הפרמטרים  $a$  ו- $b$  ואת משוואת המשיק.

(41) לאילו ערכי  $k$  ישיק הישר  $y = -5x + 6$  לגרף הפונקציה  $f(x) = x^3 - 2x^2 - 4x + k$ ?  
לכל ערך כזה של  $k$  מצא את נקודת ההשקה.

(42) הפונקציות  $y = \frac{1}{x}$  ו- $y = -\frac{1}{2}x^2 + k$  משיקות זו לזו.

מצא את  $k$  ואת נקודת ההשקה.

### תשובות סופיות:

$a = 2, y = 8x - 18$  (32)

$a = 2$  (33)

$a = 4$  (34)

$A = 1$  (35)

$(-1, 5), y = 4x + 9$  (36)

$a = 2, y = -4x - 2$  (37)

$a = -\frac{1}{8}, c = 4$  (38)

$b = 4, (4, 12)$  (39)

$b = 2, a = 6, y = -6x + 12$  (40)

$k = \frac{158}{27} : \left(\frac{1}{3}, \frac{13}{3}\right)$  או  $k = 6 : (1, 1)$  (41)

$(1, 1), k = 1.5$  (42)

## שאלות העוסקות במציאת משוואת משיק מנקודה חיזונית:

---

### שאלות:

43) ענה על הסעיפים הבאים:

- א. בטא באמצעות  $t$  את משוואת המשיק לפונקציה  $f(x) = x^2 + 1$  בנקודה שבה  $x = t$ .
- ב. מצא את ערכיו של  $t$  אם נתון שהמשיק עובר בנקודה  $(-1, 1)$ .

44) מצא את משוואות המשיקים לגרף הפונקציה:  $f(x) = 5x - x^2$  העוברים דרך הנקודה  $(3, 7)$ .

45) מצא את משוואות המשיקים לגרף הפונקציה:  $f(x) = x^2 + 5x - 6$  העוברים דרך הנקודה  $(0, -10)$ .

46) מצא את משוואות המשיקים לגרף הפונקציה:  $f(x) = 12x - x^3$  העוברים דרך הנקודה  $(2, 24)$ .

47) מצא את משוואת המשיק לפונקציה  $f(x) = \frac{1}{\sqrt{x}}$  העובר בנקודה  $(3, 0)$ .

48) מצא משוואת המשיק לפונקציה:  $f(x) = \frac{1}{\sqrt{x}}$  אם ידוע ששטח המשולש שהוא יוצר עם הצירים הוא 4.5 יחידות שטח.

49) מצא את משוואות המשיקים לגרף הפונקציה:  $f(x) = \frac{2}{\sqrt{x-2}}$  העוברים דרך הנקודה  $(2, 3)$ .

### תשובות סופיות:

ב.  $t = 0, -2$ .

$$(43) \quad y = 2tx - t^2 + 1$$

$$(44) \quad y = x + 4, \quad y = -3x + 16$$

$$(45) \quad y = 9x - 10, \quad y = x - 10$$

$$(46) \quad y = 12x, \quad y = -15x + 54$$

$$(47) \quad y = -\frac{1}{2}x + 1\frac{1}{2}$$

$$(48) \quad y = -\frac{1}{16}x + \frac{3}{4}$$

$$(49) \quad y = -x + 5$$

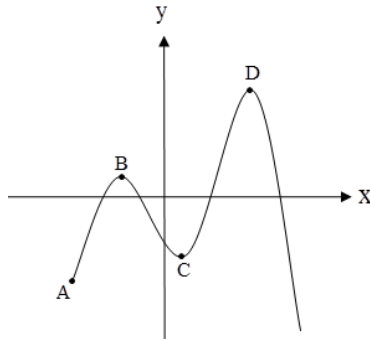
# מבוא לשיטות כמותיות בניהול

פרק 13 - חשבון דיפרנציאלי - חקירת פונקצית פולינום

תוכן העניינים

155	1. נקודות קיצון של פונקציות
158	2. חקירת פונקציה פולינומית
162	3. פונקציה זוגית ואי-זוגית

## נקודות קיצון של פונקציות:



**סיכום כללי:**

**נקודות קיצון (נקודות מינימום/מקסימום):**

- מינימום או מקסימום מקומי (פנימי) – B, C, D.
- מינימום או מקסימום קצה – A.
- מינימום או מקסימום מוחלט – D.

**נקודות קיצון מקומיות:**

- שיפוע המשיק לפונקציה בנקודות קיצון מקומיות הוא אפס.
- בנקודה שבה שיפוע המשיק לפונקציה הוא אפס תיתכן נקודת קיצון מקומית.
- נקודה כזו נקראת נקודה חשודה כקיצון. ניתן לבדוק אם היא אכן נקודת קיצון.

**שלבים למציאת נקודות קיצון מקומיות:**

- נגזור את הפונקציה.
- נשווה את הנגזרת לאפס ונחלץ את ערכי ה- $x$  של הנקודות החשודות כקיצון.
- נציב את ערכי ה- $x$  מסעיף ב' בפונקציה המקורית לקבלת ערכי ה- $y$ .
- נקבע אם הנקודה היא נקודת קיצון ונסווג את סוג הקיצון על ידי טבלה.

**שאלות:**

(1) מצא את נקודות הקיצון של הפונקציה  $f(x) = 10x - x^2$ .

(2) נתונה הפונקציה  $f(x) = x^3 - 12x$ .

- א. מהן נקודות הקיצון של הפונקציה?  
 ב. מהם תחומי העלייה והירידה של הפונקציה?

- (3) נתונה הפונקציה  $f(x) = x^4 - 10x^2 + 9$ .
- א. מהן נקודות הקיצון של הפונקציה?  
 ב. מהם תחומי העלייה והירידה של הפונקציה?
- (4) נתונה הפונקציה  $f(x) = x^4 - 4x^3 + 32$ .
- א. מהן נקודות הקיצון של הפונקציה?  
 ב. מהם תחומי העלייה והירידה של הפונקציה?
- (5) לפונקציה  $f(x) = ax - x^3 - 5$  יש נקודת קיצון בנקודה שבה  $x = -1$ . מצא את ערכו של הפרמטר  $a$ .
- (6) נתונה הפונקציה  $f(x) = ax^3 + x^2$ . ידוע שהנקודה  $x = 1$  נקודת קיצון. מצא את הקבוע  $a$ .
- (7) לפונקציה  $f(x) = Ax^3 + Bx^2 - 1$  יש נקודת קיצון ששיעוריה:  $(2, 3)$ . מצא את ערכי הפרמטרים  $A, B$ .
- (8) לפונקציה  $f(x) = Ax^3 + Bx^2 - 4x$  יש נקודת קיצון ב- $x = -1$  ו- $x = 4$ . מצא את הפרמטרים ואת שיעור ה- $y$  של שתי נקודות הקיצון.
- (9) נתונה הפונקציה  $f(x) = ax^3 + bx^2$ . ידוע שהנקודה  $(1, 2)$  נקודת קיצון. מצא את הפרמטרים  $a, b$ .
- (10) לפונקציה  $f(x) = ax^4 + bx^2 + 35$  יש נקודת קיצון ששיעוריה  $(2, 3)$ . מצא את ערכי הפרמטרים  $a, b$ .

## תשובות סופיות:

(1)  $\max(5, 25)$

(2) א.  $\min(2, -16)$ ,  $\max(-2, 16)$  ב. עולה:  $x > 2$ ,  $x < -2$  יורדת:  $-2 < x < 2$ .

(3) א.  $\max(0, 9)$ ,  $\min(\sqrt{5}, -16)$ ,  $\min(-\sqrt{5}, -16)$

ב. עולה:  $-\sqrt{5} < x < 0$ ,  $x > \sqrt{5}$  יורדת:  $0 < x < \sqrt{5}$ ,  $x < -\sqrt{5}$ .

(4) א.  $\min(3, 5)$  ב. עולה:  $x > 3$  יורדת:  $x < 3$ .

(5)  $a = 3$

(6)  $a = -\frac{2}{3}$

(7)  $A = -1$ ,  $B = 3$

(8)  $A = \frac{1}{3}$ ,  $B = -\frac{3}{2}$ ,  $\left(-1, 2\frac{1}{6}\right)$ ,  $\left(4, -18\frac{2}{3}\right)$

(9)  $b = 6$ ,  $a = -4$

(10)  $a = 2$ ,  $b = -16$

## חקירת פונקציה פולינומית:

### שאלות:

**(11)** נתונה הפונקציה  $f(x) = 10x - x^2$ .

חקור את הפונקציה על פי הסעיפים הבאים:

- מהו תחום ההגדרה של הפונקציה?
- מצא את נקודות הקיצון של הפונקציה.
- מצא את תחומי העלייה והירידה של הפונקציה.
- מצא את נקודות החיתוך של הפונקציה עם הצירים.
- שרטט סקיצה של גרף הפונקציה.

**(12)** נתונה הפונקציה  $f(x) = x^3 - 12x$ .

חקור את הפונקציה על פי הסעיפים הבאים:

- מציאת תחום ההגדרה.
- מציאת נקודות קיצון של הפונקציה.
- כתיבת תחומי העלייה והירידה של הפונקציה.
- מציאת נקודות החיתוך של גרף הפונקציה עם הצירים.
- שרטוט סקיצה של גרף הפונקציה.

**(13)** נתונה הפונקציה  $f(x) = x^4 - 10x^2 + 9$ .

חקור את הפונקציה על פי הסעיפים הבאים:

- מציאת תחום ההגדרה.
- מציאת נקודות קיצון של הפונקציה.
- כתיבת תחומי העלייה והירידה של הפונקציה.
- מציאת נקודות החיתוך של גרף הפונקציה עם הצירים.
- שרטוט סקיצה של גרף הפונקציה.

**(14)** נתונה הפונקציה  $f(x) = x^4 - 4x^3 + 32$  חקור את הפונקציה על פי הסעיפים הבאים:

- מציאת תחום ההגדרה.
- מציאת נקודות קיצון של הפונקציה.
- כתיבת תחומי העלייה והירידה של הפונקציה.
- מציאת נקודות החיתוך של גרף הפונקציה עם הצירים.
- שרטוט סקיצה של גרף הפונקציה.

15 נתונה הפונקציה  $f(x) = x^3$  חקור את הפונקציה על פי הסעיפים הבאים:

- מציאת תחום ההגדרה.
- מציאת נקודות קיצון של הפונקציה.
- כתיבת תחומי העלייה והירידה של הפונקציה.
- מציאת נקודות החיתוך של גרף הפונקציה עם הצירים.
- שרטוט סקיצה של גרף הפונקציה.

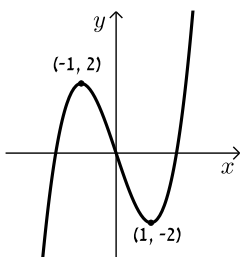
16 נתונה הפונקציה:  $f(x) = 2x^3 - 3ax^2 + 54x - 50$ .

- לאילו ערכים של הפרמטר  $a$  עולה הפונקציה בכל תחום הגדרתה?
- הצב בפונקציה  $a = 6$  וחקור את הפונקציה על פי הסעיפים הבאים: תחום הגדרה, נקודות קיצון, תחומי עלייה וירידה, נקודת חיתוך עם ציר ה- $y$ , סרטוט.

17 נתונה הפונקציה:  $y = -3x^3 + 6x^2 - 4x + d$  (פרמטר  $d$ ).

ידוע כי הפונקציה חותכת את ציר ה- $x$  בנקודה שבה:  $x = 2$ .

- מצא את  $d$ .
- האם יש לפונקציה נקודות קיצון?
- כתוב את תחומי העלייה וירידה של הפונקציה.
- מצא את נקודת החיתוך של הפונקציה עם ציר ה- $y$ .
- שרטט סקיצה של גרף הפונקציה.

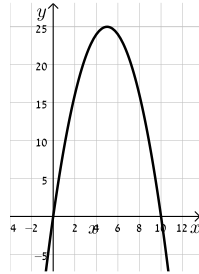


18 לפניך גרף הפונקציה  $f(x) = x^3 - 3x$ :

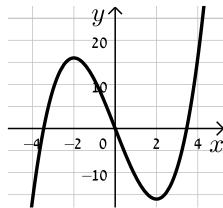
- מהו מספר הפתרונות של המשוואה  $f(x) = 5$ ?
- מהו מספר הפתרונות של המשוואה  $f(x) = 2$ ?
- מהו מספר הפתרונות של המשוואה  $f(x) = 0.5$ ?
- עבור איזה ערך של  $k$  למשוואה  $f(x) = k$  יש בדיוק פתרון אחד?
- עבור איזה ערך של  $k$  למשוואה  $f(x) = k$  יש בדיוק שני פתרונות?
- עבור איזה ערך של  $k$  למשוואה  $f(x) = k$  יש בדיוק שלושה פתרונות?
- האם קיים ערך של  $k$  עבורו למשוואה  $f(x) = k$  אין פתרון?

**תשובות סופיות:**

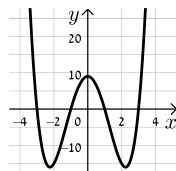
- (11)** א. כל  $x$       ב.  $\max(5,25)$       ג. עלייה:  $x < 5$ , ירידה:  $x > 5$       ד.  $(0,0)$ ,  $(10,0)$ .  
ה. להלן גרף:



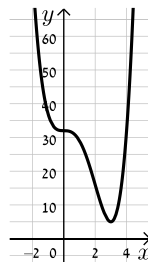
- (12)** א. כל  $x$       ב.  $\min(2,-16)$ ,  $\max(-2,16)$       ג. עלייה:  $x > 2$ ,  $x < -2$ , ירידה:  $-2 < x < 2$       ד.  $(0,0)$ ,  $(\sqrt{12},0)$ ,  $(-\sqrt{12},0)$ .  
ה. להלן גרף:



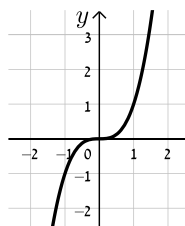
- (13)** א. כל  $x$       ב.  $\max(0,9)$ ,  $\min(\sqrt{5},-16)$ ,  $\min(-\sqrt{5},-16)$       ג. עלייה:  $-\sqrt{5} < x < 0$ ,  $x > \sqrt{5}$ , ירידה:  $x < -\sqrt{5}$ ,  $0 < x < \sqrt{5}$       ד.  $(0,9)$ ,  $(\pm 1,0)$ ,  $(\pm 3,0)$ .  
ה. להלן גרף:



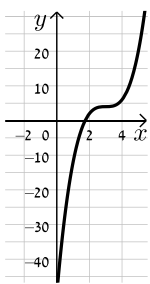
- (14)** א. כל  $x$       ב.  $\min(3,5)$       ג. תחומי עלייה:  $x > 3$ , תחומי ירידה:  $x < 3$       ד.  $(0,32)$ .  
ה. להלן גרף:



- (15)** א. כל  $x$       ב. אין.      ג. עולה לכל  $x$       ד.  $(0,0)$ .  
ה. להלן גרף:

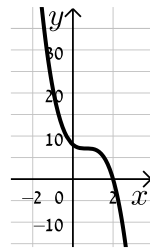


16) א.  $-6 < a < 6$  ב. תחום הגדרה: כל  $x$ , נקודות קיצון: אין, תחומי עלייה: כל  $x$ ,



תחומי ירידה: אין, נקודת חיתוך עם הצירים:  $(0, -50)$ , להלן גרף:

17) א.  $d = 8$  ב. לא. ג. יורדת בתחום  $x \neq \frac{2}{3}$



ד.  $(0, 8)$  ה. להלן גרף:

18) א. 1. ב. 2. ג. 3. ד.  $k > 2, k < -2$

ה.  $k = \pm 2$  ו.  $-2 < k < 2$  ז. לא.

## פונקציה זוגית ואי-זוגית:

### סיכום כללי:

#### הגדרות:

- פונקציה  $f(x)$  תיקרא זוגית אם לכל  $x$  בתחום הגדרתה מתקיים:  $f(x) = f(-x)$ .
- פונקציה  $f(x)$  תיקרא אי-זוגית אם לכל  $x$  בתחום הגדרתה מתקיים:  $f(-x) = -f(x)$ .

#### שאלות:

(1) קבע אלו מהפונקציות הבאות הן זוגיות/אי-זוגיות לא זו ולא זו:

א.  $f(x) = 3x - 5$

ב.  $f(x) = 3x^2$

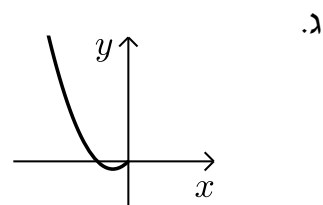
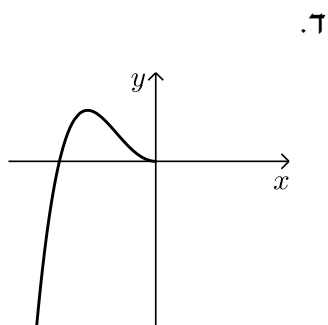
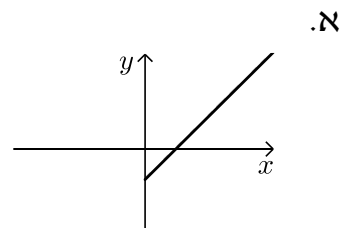
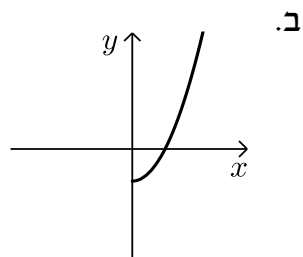
ג.  $f(x) = 2x^3$

ד.  $f(x) = x^3 - 2x^2$

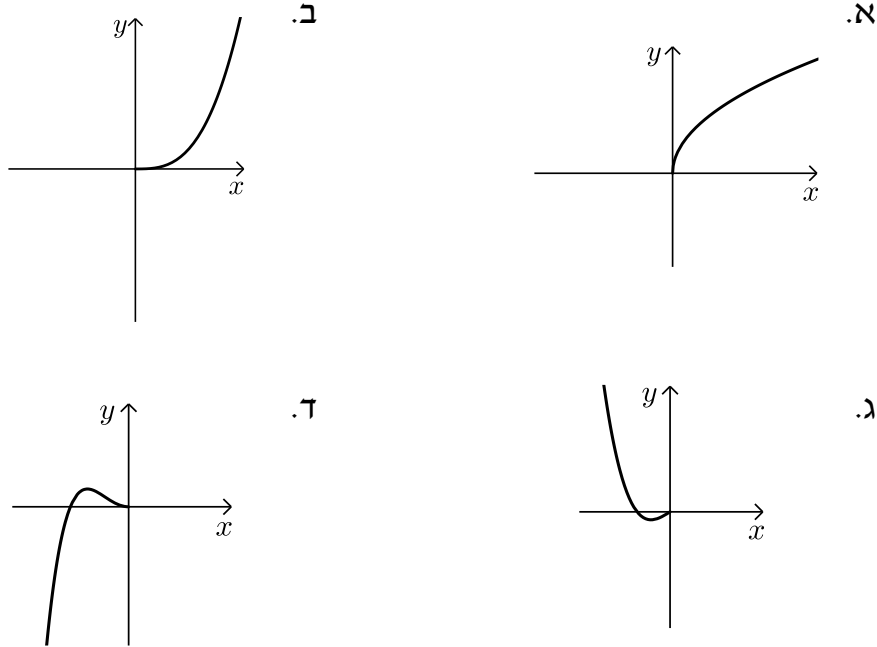
ה.  $f(x) = 4x^4 - 3x^2 + 1$

ו.  $f(x) = 4x^5 - 3x^3 - 1$

(2) הפונקציות המסורטטות להלן מוגדרות לכל  $x$ . השלם את ציור הגרף של הפונקציה כך שתקבל פונקציה זוגית:



3) הפונקציות המסורטטות להלן מוגדרות לכל  $x$ . השלם את ציור הגרף של הפונקציה כך שתקבל פונקציה אי-זוגית:



4) נתונה הפונקציה הבאה:  $f(x) = x^4 - 4x^2$  בתחום:  $[0:3]$ .

א. חקור את הפונקציה בתחום הנ"ל לפי הסעיפים הבאים:

- i. תחום הגדרה.
- ii. מציאת נקודות חיתוך עם הצירים.
- iii. מציאת נקודות קיצון וסיווגן.
- iv. כתיבת תחומי עלייה וירידה.
- v. סרטוט סקיצה של גרף הפונקציה.

ב. הוכח כי הפונקציה  $f(x)$  היא פונקציה זוגית.

ג. התבסס על ממצאריך מהסעיפים הקודמים וסרטט את הפונקציה בתחום:  $[-3:3]$  (הוסף את סרטוט גרף הפונקציה בתחום  $[-3:0]$  לגרף שסרטטת בסעיף הקודם).

5) נתונה הפונקציה הבאה:  $f(x) = x^6 - 3x^2 + 3$ .

- חקור את הפונקציה בתחום:  $[0:4]$  לפי הסעיפים הבאים: תחום הגדרה, מציאת חיתוך עם ציר ה- $y$ , מציאת נקודות קיצון וסיווגן, כתיבת תחומי עלייה וירידה, סרטוט סקיצה בתחום הנ"ל.
- האם הפונקציה היא זוגית? אי-זוגית? לא זו ולא זו? נמק באמצעות חישוב מתאים.
- הסתמך על ממצאיך מהסעיפים הקודמים והוסף לסקיצה ששרטטת בסעיף א', את עקום הפונקציה בתחום  $[-4:0]$ .
- הוכח כי הפונקציה חיובית לכל  $x$  בתחום הגדרתה.

6) לפניך הפונקציה:  $f(x) = -2x^6 + 3x^4 + a$ , פרמטר  $a$ .

ידוע כי לפונקציה ערך מירבי של 1.

- מצא את  $a$  וכתוב את הפונקציה  $f(x)$ .
- חקור את הפונקציה בתחום:  $[-2:0]$  לפי הסעיפים הבאים: כתיבת תחום הגדרה, מציאת נקודות חיתוך עם הצירים, מציאת נקודות קיצון וסיווגן, כתיבת תחומי עלייה וירידה, סרטוט סקיצה.
- האם הפונקציה היא זוגית? אי-זוגית? לא זה ולא זה? נמק באמצעות חישוב מתאים.
- הסתמך על ממצאיך מהסעיפים הקודמים ושרטט את גרף הפונקציה בתחום:  $[-2:2]$ .

7) נתונה הפונקציה הבאה:  $f(x) = 3x^3 - 9x$ .

- חקור את הפונקציה בתחום:  $[0:5]$  לפי הסעיפים הבאים: כתיבת תחום הגדרה, מציאת נקודות חיתוך עם הצירים, מציאת נקודות קיצון וסיווגן, כתיבת תחומי עלייה וירידה, סרטוט סקיצה.
- הוכח כי הפונקציה היא אי-זוגית.
- התבסס על ממצאיך מהסעיפים הקודמים ושרטט את הפונקציה בתחום:  $[-5:5]$  (הוסף את סרטוט גרף הפונקציה בתחום  $[-5:0]$  לגרף ששרטטת בסעיף הקודם).

- 8) לפניך הפונקציה הבאה:  $f(x) = 5x^3 - 3x^5 + b$ , פרמטר  $b$ . ידוע כי הישר  $y = 2x$  עובר דרך כל הנקודות על גרף הפונקציה שמקיימות:  $f'(x) = 0$ .
- מצא את  $b$  וכתוב את הפונקציה  $f(x)$ .
  - חקור את הפונקציה בתחום:  $[0:2]$  לפי הסעיפים הבאים:
    - תחום הגדרה.
    - מציאת נקודות חיתוך עם הצירים.
    - מציאת נקודות קיצון וסיווגן.
    - כתיבת תחומי עלייה וירידה.
    - סרטוט סקיצה של גרף הפונקציה.
  - בדוק האם הפונקציה היא זוגית/אי-זוגית או לא זו ולא זו. נמק את קביעתך באמצעות חישוב מתאים.
  - הסתמך על ממציאך מהסעיפים הקודמים והוסף לסקיצה של גרף הפונקציה את הגרף בתחום  $[-2:0]$ .

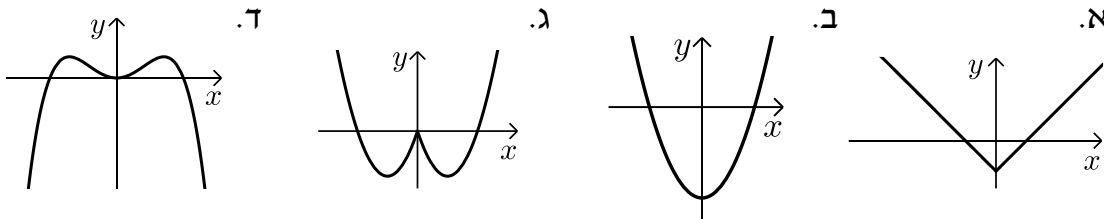
9) נתונה הפונקציה:  $f(x) = \frac{x^7 - x}{3}$

- חקור את הפונקציה בתחום:  $[-4:0]$  לפי הסעיפים הבאים:
  - תחום הגדרה.
  - מציאת נקודות חיתוך עם הצירים.
  - מציאת נקודות קיצון וסיווגן (בתשובתך השאר עד 2 ספרות לאחר הנקודה העשרונית).
  - כתיבת תחומי עלייה וירידה.
  - סרטוט סקיצה של גרף הפונקציה.
- האם הפונקציה היא זוגית? אי-זוגית? או לא זו ולא זו? נמק ע"י חישוב מתאים.
- הסתמך על ממציאך מהסעיפים הקודמים והוסף לסקיצה שעשית את גרף הפונקציה בתחום  $[0:4]$ .

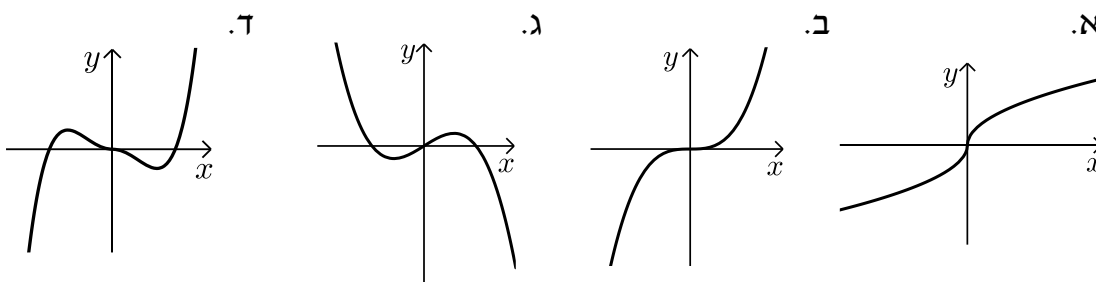
**תשובות סופיות:**

- (1) זוגית: ב', ה'.  
(2) להלן הגרפים:

אי-זוגית: ג', לא זו ולא זו: א', ד', ו'.

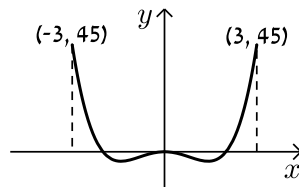


- (3) להלן הגרפים:

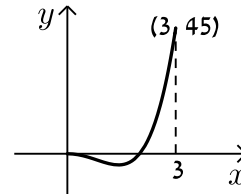


- (4) א. i.  $0 \leq x \leq 3$  ii.  $(0,0), (2,0)$  iii.  $\max(3,45)$  קצה,  $\min(\sqrt{2}, -4)$   
 iv. עולה:  $\sqrt{2} < x < 3$ , יורדת:  $0 < x < \sqrt{2}$ . ב. סעיף הוכחה.

**סרטוט עבור סעיף ג:**

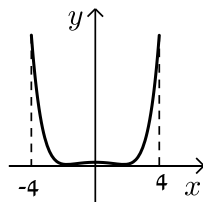


**סרטוט עבור חלק v:**

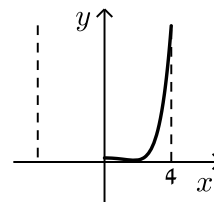


- (5) א. תחום הגדרה:  $0 \leq x \leq 4$ , חיתוך עם ציר ה- $y$ :  $(0,3)$ , נקודות קיצון:  $\max(4,4051)$  קצה,  $\min(1,1)$ ,  $\max(0,3)$  קצה, עולה:  $1 < x < 4$ , יורדת:  $0 < x < 1$ . ב. זוגית. ד. הוכחה עפ"י הסרטוט.


**סרטוט עבור סעיף ג:**



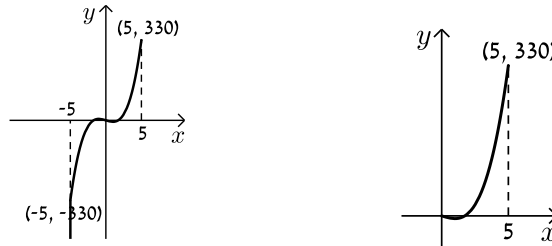
**סרטוט עבור סעיף א:**



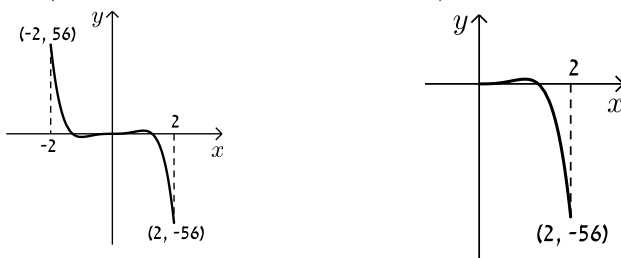
6. א.  $a=0$  ב. תחום הגדרה:  $-2 \leq x \leq 0$ , חיתוך עם הצירים:  
 נקודות קיצון:  $(0,0)$ ,  $(-1.225,0)$ ,  $\min(-2,-80)$ ,  $\max(-1,1)$ ,  $\min(0,0)$  קצה,  
 עולה:  $-2 < x < -1$ , יורדת:  $-1 < x < 0$ . ג. זוגית.  
**סרטוט עבור סעיף א:** **סרטוט עבור סעיף ד:**



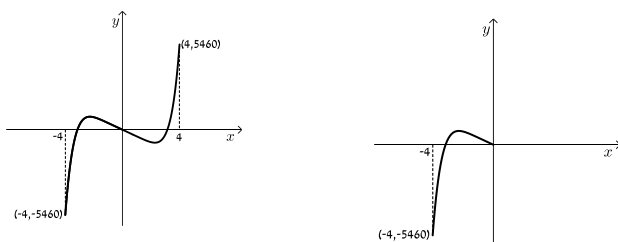
7. א. תחום הגדרה:  $0 \leq x \leq 5$ , חיתוך עם הצירים:  $(0,0)$ ,  $(\sqrt{3},0)$   
 נקודות קיצון:  $\max(5,330)$  קצה,  $\min(1,-6)$ ,  $\max(0,0)$  קצה,  
 עולה:  $1 < x < 5$ , יורדת:  $0 < x < 1$ . ב. אי-זוגית.  
**סרטוט עבור סעיף א:** **סרטוט עבור סעיף ג:**



8. א.  $b=0$  ב. i  $0 \leq x \leq 2$  ii  $(0,0)$ ,  $(1.29,0)$  iii  $\min(2,-56)$  קצה,  
 iv. עולה:  $0 < x < 1$ , יורדת:  $1 < x < 2$ . ג. אי-זוגית.  
**סרטוט עבור סעיף ד:** **סרטוט עבור חלק v:**



9. א. i  $-4 \leq x \leq 0$  ii  $(-1,0)$ ,  $(0,0)$  iii  $\min(0,0)$  קצה,  $\max(-0.723,0.207)$ ,  
 iv. עולה:  $-4 < x < -0.723$ . ג. אי-זוגית. **סרטוט עבור סעיף ד:** **סרטוט עבור חלק v:**



# מבוא לשיטות כמותיות בניהול

פרק 14 - חשבון דיפרנציאלי - חקירת פונקצית מנה ושורש

תוכן העניינים

168	1. מציאת תחום הגדרה
170	2. מציאת נקודות קיצון ותחומי עלייה וירידה
171	3. מציאת אסימפטוטות המקבילות לצירים
176	4. חקירת פונקצית מנה
185	5. חקירת פונקצית שורש
193	6. תחומי קעירות ונקודות פיתול
199	7. חקירת פונקציה עם פרמטר
202	8. פונקציות ללא תבנית מפורשת

## מציאת תחום הגדרה:

### סיכום כללי:

- כל פולינום מוגדר לכל  $x$ .
- בפונקציה עם מכנה, אסור שיתקבל אפס במכנה.
- בפונקציה עם שורש זוגי, אסור שיתקבל מספר שלילי בתוך השורש.

### שאלות:

(1) מצא את תחום ההגדרה של הפונקציות הבאות:

א. $f(x) = x^2 + \frac{1}{2}x$	ב. $f(x) = 4x^3 - x^2 + \frac{x}{2} + 1$
ג. $f(x) = x^3 - x^2 - 4x + 1$	ד. $f(x) = \frac{2x}{x-3}$
ה. $f(x) = \frac{1}{x^2 - 4}$	ו. $f(x) = \frac{5x^3 + 4x}{x^2 - 1}$
ז. $f(x) = \frac{x^2}{x^2 - x - 2}$	ח. $f(x) = \frac{x^2 + 1}{x^2 - 2x - 8}$
ט. $f(x) = \frac{6}{x^2 + 1}$	י. $f(x) = \frac{4x + 1}{x^2 + 1}$
יא. $f(x) = \frac{1}{x^3 - x}$	יב. $f(x) = \frac{x^2}{x^3 - 4x}$

(2) מצא את תחום ההגדרה של הפונקציות הבאות:

א. $f(x) = \sqrt{x}$	ב. $f(x) = 2\sqrt{x-3}$
ג. $f(x) = \sqrt{x-4}$	ד. $f(x) = 3x\sqrt{1-2x}$
ה. $f(x) = \sqrt{x^2 + 3x - 10}$	ו. $f(x) = \sqrt{x^2 + x - 2}$
ז. $f(x) = \frac{5x}{\sqrt{x+4}}$	ח. $f(x) = \frac{\sqrt{x^2 + 5x + 6}}{x-1}$
ט. $f(x) = \sqrt{\frac{2x^2 + x - 3}{x^2 + 5x + 9}}$	י. $f(x) = \frac{x-2}{\sqrt{x^3 - 9x}}$
יא. $f(x) = \frac{1}{x + \sqrt{x+6}}$	יב. $f(x) = \frac{x+1}{x - \sqrt{2-x}}$
יג. $f(x) = \frac{1}{\sqrt{1- x }}$	יד. $f(x) = \sqrt{\sqrt{x+2} - 3}$

## תשובות סופיות:

- (1) א. כל  $x$     ב. כל  $x$     ג. כל  $x$     ד.  $x \neq 3$     ה.  $x \neq \pm 2$     ו.  $x \neq \pm 1$
- ז.  $x \neq -1, 2$     ח.  $x \neq 4, -2$     ט. כל  $x$     י. כל  $x$     יא.  $x \neq \pm 1, 0$     יב.  $x \neq \pm 2, 0$
- (2) א.  $x \geq 0$     ב.  $x \geq 3$     ג.  $x \geq 4$     ד.  $x \leq \frac{1}{2}$     ה.  $x \leq -5, x \geq 2$
- ו.  $x \leq -2, x \geq 1$     ז.  $x > -4$     ח.  $x \leq -3, -2 \leq x < 1, x > 1$     ט.  $x \leq -1.5, x \geq 1$
- י.  $-3 < x < 0, x > 3$     יא.  $-6 \leq x < -2, x > -2$     יב.  $x < 1, 1 < x \leq 2$     יג.  $-1 < x < 1$     יד.  $x \geq 7$

## מציאת נקודות קיצון ותחומי עלייה וירידה:

שאלות:

(3) נתונה הפונקציה:  $f(x) = \frac{6x}{x^2 - 10x + 9}$ .

- א. מהן נקודות הקיצון של הפונקציה?  
 ב. מהם תחומי העלייה והירידה של הפונקציה?

תשובות סופיות:

(3) א.  $\min\left(-3, -\frac{3}{8}\right), \max\left(3, -1\frac{1}{2}\right)$ .

ב. עולה:  $-3 < x < 3$ , יורדת:  $x < -3, 3 < x \neq 9$ ,  $x \neq 1$ .

## מציאת אסימפטוטות המקבילות לצירים:

### סיכום כללי:

#### אסימפטוטה אנכית:

הגדרה: הישר:  $x = k$  הוא אסימפטוטה אנכית של פונקציה מהצורה:  $y = \frac{f(x)}{g(x)}$

אם הוא מקיים:  $g(k) = 0$  וגם:  $f(k) \neq 0$ . בצורה מתמטית: אם:  $\lim_{x \rightarrow k^+} \frac{f(x)}{g(x)} = \pm\infty$

או:  $\lim_{x \rightarrow k^-} \frac{f(x)}{g(x)} = \pm\infty$  או שניהם אז הישר:  $x = k$  הוא אסימפטוטה אנכית לפונקציה  $y = \frac{f(x)}{g(x)}$ .

### הסבר כללי:

בעבור ערכי  $x$  שמאפסים את המכנה, אבל לא את המונה יש אסימפטוטה אנכית. כאשר ערך  $x$  מאפס את המכנה וגם את המונה יש לפרק את המונה והמכנה (על ידי נוסחאות כפל מקוצר או טרינום למשל) ולצמצם. אם אחרי הצמצום אותו ערך של  $x$  עדיין מאפס את המכנה תתקבל אסימפטוטה אנכית, אך אם ערך  $x$  זה לא מאפס את המכנה אחרי שצומצם אין אסימפטוטה אנכית אלא נקודת אי הגדרה.

#### אסימפטוטה אופקית:

הגדרה: ישר מהצורה:  $y = n$  הוא אסימפטוטה אופקית לפונקציה מהצורה:  $y = \frac{f(x)}{g(x)}$

אם מתקיים:  $\lim_{x \rightarrow \infty^+} \frac{f(x)}{g(x)} = n$  או:  $\lim_{x \rightarrow \infty^-} \frac{f(x)}{g(x)} = n$  או שניהם.

אופן החישוב הכללי:

נתונה הפונקציה  $f(x) = \frac{ax^m + \dots}{bx^n + \dots}$  (יש בפונקציה קו שבר אחד!)

- אם  $m > n$ , לפונקציה אין אסימפטוטה אופקית.
- אם  $m = n$ , לפונקציה יש אסימפטוטה אופקית שמשוואתה  $y = \frac{a}{b}$ .
- אם  $m < n$ , לפונקציה יש אסימפטוטה אופקית שמשוואתה  $y = 0$ .

### חוקי גבולות לאינסוף:

במקרים רבים נרצה לדעת האם פונקציה מסוימת מתכנסת לערך כלשהו כאשר  $x$  שואף לערכים ההולכים וגדלים (לאינסוף, או למינוס אינסוף). עבור ערכי  $x$  שהולכים וגדלים (או קטנים) נרשום:  $x = \infty$  או  $x = -\infty$  בהתאמה.

ישנם 4 מצבים בהם ערך הפונקציה בשאיפת  $x$  לאחד הקצוות ניתן לחישוב ישיר:

- הגבול:  $\lim_{x \rightarrow \infty} \frac{1}{x} = \frac{1}{\infty} = 0$

- הגבול:  $\lim_{x \rightarrow 0} \frac{1}{x}$  ניתן לפיצול לשני מקרים:

- אם:  $x \rightarrow 0^+$  (מתקרב ל-0 מהכיוון החיובי) אז:  $\lim_{x \rightarrow 0^+} \frac{1}{x} = \frac{1}{0^+} = +\infty$

- אם:  $x \rightarrow 0^-$  (מתקרב ל-0 מהכיוון השלילי) אז:  $\lim_{x \rightarrow 0^-} \frac{1}{x} = \frac{1}{0^-} = -\infty$

- הגבול מהצורה  $\infty \cdot \infty$  (מכפלת שני ביטויים של  $x$  אשר כל אחד מהם שואף לאינסוף בפני עצמו) מקיים:  $\infty \cdot \infty = \infty$

- הגבול מהצורה  $\infty + \infty$  (סכום שני ביטויים של  $x$  אשר כל אחד מהם שואף לאינסוף בפני עצמו) מקיים:  $\infty + \infty = \infty$

ישנם 3 מקרים בהם לא ניתן לדעת מהו ערך הפונקציה בלקיחת הגבול בצורה ישירה והם:

- הגבול מהצורה:  $\frac{\infty}{\infty}$  (מנת שני ביטויים שהולכים וגדלים עם שאיפת  $x$ ).

- הגבול מהצורה:  $\frac{0}{0}$  (מנת שני ביטויים שהולכים וקטנים עם שאיפת  $x$ ).

- הגבול מהצורה:  $\infty - \infty$  (הפרש של שני ביטויים שהולכים וגדלים עם שאיפת  $x$ ). במקרים אלו נעזר בפישוטים שהוצגו לעיל על מנת למצוא את ערך הגבול עצמו.

## שאלות:

(4) מצא את האסימפטוטות המקבילות לצירים של הפונקציה:  $f(x) = \frac{1}{x-2} + 3$

(5) מצא את האסימפטוטות המקבילות לצירים של הפונקציה:  $f(x) = \frac{5x^2+1}{x^2-9}$

(6) מצא את האסימפטוטות המקבילות לצירים של הפונקציה:  $f(x) = \frac{2x^2-5x+2}{1+3x^2}$

(7) מצא את האסימפטוטות המקבילות לצירים של הפונקציה:  $f(x) = \frac{3x}{x^2-2x-15}$

(8) מצא את האסימפטוטות המקבילות לצירים של הפונקציה:  $f(x) = \frac{6x^3-5x+1}{1+2x^2}$

(9) מצא את האסימפטוטות המקבילות לצירים של הפונקציה:  $f(x) = \frac{ax+b}{x-b}$

(10) מצא את האסימפטוטות המקבילות לצירים של הפונקציה:  $f(x) = \frac{x^2-4}{x^2-3x+2}$   
 ואת נקודת אי הרציפות שלה.

(11) מצא את האסימפטוטות המקבילות לצירים של הפונקציה:  $f(x) = \frac{x^2}{2x^2-4x}$   
 ואת נקודת אי הרציפות שלה.

(12) מצא את האסימפטוטות המקבילות לצירים של הפונקציה:  $f(x) = \frac{\sqrt{x-1}}{x^2-4}$

(13) מצא את האסימפטוטות המקבילות לצירים של הפונקציה:  $f(x) = \frac{x}{\sqrt{4-x}}$

14) מצא את האסימפטוטות המקבילות לצירים של הפונקציה:  $f(x) = \frac{\sqrt{x}}{1-\sqrt{x}}$

15) מצא את האסימפטוטות המקבילות לצירים של הפונקציה:  $f(x) = \frac{2x}{x-\sqrt{x}}$

16) מצא את האסימפטוטות המקבילות לצירים של הפונקציה:  $f(x) = \frac{3x}{\sqrt{x^2+5}}$

17) מצא את האסימפטוטות המקבילות לצירים של הפונקציה:  $f(x) = \frac{5x}{\sqrt{x^2-16}}$

18) נתונה הפונקציה:  $f(x) = \frac{4x^2+1}{ax^2-x+b}$

האסימפטוטה האופקית של הפונקציה ואחת האסימפטוטות האנכיות של הפונקציה

נפגשות בנקודה  $(-1, 2)$ .

מצא את ערכי הפרמטרים  $a$  ו- $b$ .

19) נתונה הפונקציה:  $f(x) = \frac{ax+8}{x+b\sqrt{x}}$

הפונקציה חותכת את האסימפטוטה האופקית שלה בנקודה  $(16, 2)$ .

מצא את ערכי הפרמטרים  $a$  ו- $b$ .

### תשובות סופיות:

(4)  $x = 2, y = 3$

(5)  $x = \pm 3, y = 5$

(6)  $y = \frac{2}{3}$

(7)  $x = -3, x = 5, y = 0$

(8) אין.

(9)  $x = b, y = a$

(10) נקודת אי-הגדרה:  $(2, 4)$ ,  $x = 1, y = 1$

(11) נקודת אי-הגדרה:  $(0, 0)$ ,  $x = 2, y = \frac{1}{2}$

(12)  $x = 2, y = 0$

(13)  $x = 4$

(14)  $x = 1, y = -1$

(15)  $x = 1, y = 2$

(16)  $y = \lim_{x \rightarrow \infty} (f(x)) = 3, y = \lim_{x \rightarrow -\infty} (f(x)) = -3$

(17)  $x = 4, x = -4, y = 5, y = -5$

(18)  $b = -3, a = 2$

(19)  $b = 1, a = 2$

## חקירת פונקצית מנה:

### שאלות:

(20) נתונה הפונקציה:  $f(x) = \frac{6x^2 - 10x + 6}{3x^2 - 10x + 3}$ . חקור את הפונקציה לפי הסעיפים הבאים:

- א. מציאת תחום ההגדרה.
- ב. מציאת נקודות הקיצון של הפונקציה.
- ג. כתיבת תחומי העלייה והירידה של הפונקציה.
- ד. מציאת נקודות החיתוך של גרף הפונקציה עם הצירים.
- ה. מציאת אסימפטוטות המקבילות לצירים.
- ו. שרטוט סקיצה של גרף הפונקציה.

(21) נתונה הפונקציה:  $f(x) = x + \frac{1}{x}$ . חקור את הפונקציה לפי הסעיפים הבאים:

- א. מציאת תחום ההגדרה.
- ב. מציאת נקודות הקיצון של הפונקציה.
- ג. כתיבת תחומי העלייה והירידה של הפונקציה.
- ד. מציאת נקודות החיתוך של גרף הפונקציה עם הצירים.
- ה. שרטוט סקיצה של גרף הפונקציה.

(22) נתונה הפונקציה:  $f(x) = \frac{2x+1}{x-3}$ . חקור את הפונקציה לפי הסעיפים הבאים:

- א. מציאת תחום ההגדרה.
- ב. מציאת נקודות הקיצון של הפונקציה.
- ג. כתיבת תחומי העלייה והירידה של הפונקציה.
- ד. מציאת נקודות החיתוך של גרף הפונקציה עם הצירים.
- ה. מציאת אסימפטוטות המקבילות לצירים.
- ו. שרטוט סקיצה של גרף הפונקציה.

**(23)** נתונה הפונקציה:  $f(x) = \frac{6x}{x^2 - 5x + 4}$ . חקור את הפונקציה לפי הסעיפים הבאים:

- א. מציאת תחום ההגדרה.
- ב. מציאת נקודות הקיצון של הפונקציה.
- ג. כתיבת תחומי העלייה והירידה של הפונקציה.
- ד. מציאת נקודות החיתוך של גרף הפונקציה עם הצירים.
- ה. שרטוט סקיצה של גרף הפונקציה.

**(24)** נתונה הפונקציה:  $f(x) = \frac{x^2 - 3x}{x^2 + 3}$ . חקור את הפונקציה לפי הסעיפים הבאים:

- א. מציאת תחום ההגדרה.
- ב. מציאת נקודות הקיצון של הפונקציה.
- ג. כתיבת תחומי העלייה והירידה של הפונקציה.
- ד. מציאת נקודות החיתוך של גרף הפונקציה עם הצירים.
- ה. שרטוט סקיצה של גרף הפונקציה.

**(25)** נתונה הפונקציה הבאה:  $y = \frac{2x^2 - 5x + 2}{4x}$ . חקור לפי הסעיפים הבאים:

- א. תחום הגדרה.
- ב. נקודות קיצון.
- ג. קביעת סוג הקיצון ותחומי עלייה וירידה.
- ד. חיתוך עם הצירים.
- ה. מציאת אסימפטוטה אנכית.
- ו. שרטוט סקיצה.

**(26)** נתונה הפונקציה:  $f(x) = \frac{x^2 - 5x + 6}{x - 3}$ . חקור את הפונקציה לפי הסעיפים הבאים:

- א. מציאת תחום הגדרה.
- ב. מציאת נקודות קיצון של הפונקציה.
- ג. כתיבת תחומי העלייה והירידה של הפונקציה.
- ד. מציאת נקודות החיתוך של גרף הפונקציה עם הצירים.
- ה. מציאת אסימפטוטות המקבילות לצירים.
- ו. שרטוט סקיצה של גרף הפונקציה.

**(27)** נתונה הפונקציה:  $f(x) = \frac{x^2 - 3x + 2}{x^2 - 1}$ . חקור את הפונקציה לפי הסעיפים הבאים:

- א. מציאת תחום הגדרה.
- ב. מציאת נקודות קיצון של הפונקציה.
- ג. כתיבת תחומי העלייה והירידה של הפונקציה.
- ד. מציאת נקודות החיתוך של גרף הפונקציה עם הצירים.
- ה. מציאת אסימפטוטות המקבילות לצירים.
- ו. סרטוט סקיצה של גרף הפונקציה.

**(28)** לגרף הפונקציה:  $f(x) = \frac{ax + 4}{x^2}$  יש נקודת קיצון שבה  $x = -8$ .

- א. מצא את  $a$  וכתוב את הפונקציה.
- ב. כתוב את תחומי העלייה והירידה של הפונקציה.
- ג. מצא את נקודות החיתוך של הפונקציה עם הצירים.
- ד. מצא את האסימפטוטות המקבילות לצירים.
- ה. סרטוט סקיצה של גרף הפונקציה.

**(29)** נתונה הפונקציה:  $f(x) = \frac{3x^2}{2x^2 - 8}$ .

- א. מהו תחום הגדרה של הפונקציה?
- ב. מצא את נקודות הקיצון של הפונקציה.
- ג. קבע את סוג הקיצון ותחומי העלייה והירידה של הפונקציה.
- ד. מצא את נקודות החיתוך עם הצירים של הפונקציה.
- ה. מצא את האסימפטוטות המקבילות לצירים של הפונקציה.
- ו. סרטוט סקיצה של גרף הפונקציה.

**(30)** נתונה הפונקציה:  $y = \frac{a^2x - 4}{2x^2 - 1}$ ,  $(a$  קבוע).

- ידוע כי שיפוע המשיק לגרף הפונקציה בנקודה שבה:  $x = 1$  הוא:  $m = 4$ .
- א. מצא את כל הערכים האפשריים עבור  $a$ .
  - ב. מצא את נקודות החיתוך של גרף הפונקציה עם הצירים.
  - ג. מצא את נקודת החיתוך בין המשיק הנתון ומשיק העובר דרך נקודת החיתוך של גרף הפונקציה עם ציר ה- $y$ .

**(31)** נתונה הפונקציה הבאה:  $f(x) = 1.5x - \frac{5x+1}{x+5}$ . חקור לפי הסעיפים הבאים:

- א. תחום הגדרה.
- ב. נקודות קיצון וסוגן.
- ג. תחומי עלייה וירידה.
- ד. חיתוך עם הצירים.
- ה. מציאת אסימפטוטות המקבילות לצירים.
- ו. סרטוט סקיצה.

**(32)** נתונה הפונקציה:  $f(x) = \frac{x-a}{x-1}$ ,  $(a \neq 1)$ .

- א. מצא את תחום ההגדרה של הפונקציה.
- ב. מצא את האסימפטוטות של הפונקציה המקבילות לצירים.
- ג. הבע באמצעות  $a$  את השיעורים של נקודת החיתוך של גרף הפונקציה עם ציר ה- $x$  ועם ציר ה- $y$ .
- ד. ענה על הסעיפים הבאים:
  - i. מצא עבור אילו ערכים של  $a$  הפונקציה  $f(x)$  עולה לכל  $x$  בתחום ההגדרה.
  - ii. ישר המשיק לגרף הפונקציה  $f(x)$  בנקודה שבה  $x=a$  מקביל לישר המשיק לגרף הפונקציה בנקודה שבה:  $x=2$ . מצא את הערך של  $a$  אם נתון כי הפונקציה עולה לכל  $x$ .

**(33)** נתונה הפונקציה:  $f(x) = \frac{x^2+ax+6}{x-2}$ ,  $(a$  פרמטר).

- ידוע שאחת מנקודות הקיצון של הפונקציה נמצאת על ציר ה- $y$ .
- א. מצא את הערך של  $a$ .
  - ב. הצב את הערך של  $a$  שמצאת בסעיף א' ומצא:
    - i. את תחום ההגדרה של הפונקציה.
    - ii. את נקודות החיתוך של גרף הפונקציה עם הצירים (אם יש כאלה).
    - iii. את השיעורים של נקודות הקיצון של הפונקציה, וקבע את סוגן.
    - iv. את האסימפטוטות של הפונקציה המקבילות לצירים (אם יש כאלה).
  - ג. עבור אלו ערכי  $x$  הפונקציה שלילית?
  - ד. נתון הישר:  $y=k$ . עבור אלו ערכי  $k$  אין נקודות משותפות לישר ולגרף הפונקציה? נמק.

34 נתונה הפונקציה:  $y = \frac{x+3}{x-2} + A$ , (A פרמטר). גרף הפונקציה עובר בנקודה (A, 3A).

- מצא את ערך הפרמטר A.
  - כתוב את תחום ההגדרה של הפונקציה.
  - הוכח כי גרף הפונקציה יורד לכל x.
  - מצא את נקודת החיתוך של גרף הפונקציה עם ציר ה-y.
  - סרטט סקיצה של גרף הפונקציה.
  - נתון הישר:  $y = k$ .
- האם קיים ערך של k עבורו הישר חותך את גרף הפונקציה בשתי נקודות שונות? נמק.

35 נתונה הפונקציה:  $f(x) = \frac{ax^2 - 20x + 28}{x^2 + 2a}$ .

- ידוע כי גרף הפונקציה חותך את האסימפטוטה האופקית שלו בנקודה (3, 0.5).
- מצא את ערך הפרמטר a וכתוב את הפונקציה ואת תחום הגדרתה.
  - מצא את נקודות הקיצון של הפונקציה וקבע את סוגן.
  - כתוב את תחומי העלייה והירידה של הפונקציה.
  - מצא את נקודות החיתוך של גרף הפונקציה עם הצירים.
  - סרטט סקיצה של גרף הפונקציה.
  - העזר בגרף הפונקציה וקבע עבור אלו ערכים של k הישר:  $y = k$  יחתוך את גרף הפונקציה בנקודה אחת בלבד.

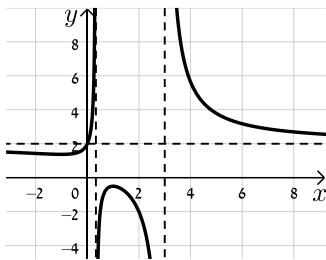
36 ענה על הסעיפים הבאים:

- הוכח כי לגרף הפונקציה:  $f(x) = \frac{9-x^2}{x^2-k}$  יש נקודת קיצון שנמצאת על ציר ה-y.
- הוכח כי הפונקציה  $f(x)$  מוגדרת לכל x אם ידוע כי שיעור ה-y של נקודת הקיצון הוא 3.
- מצא את נקודות החיתוך של גרף הפונקציה עם ציר ה-x.
- מצא את האסימפטוטה האופקית של הפונקציה.
- סרטט סקיצה של גרף הפונקציה וקבע בכמה נקודות יחתוך אותו הישר  $y = -1$ . נמק את תשובתך.

**תשובות סופיות:**

20 א.  $x \neq 3, x \neq \frac{1}{3}$  ב.  $\min\left(-1, 1\frac{3}{8}\right), \max\left(1, -\frac{1}{2}\right)$

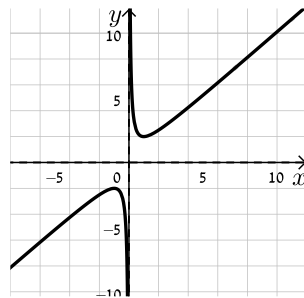
ג. תחומי עלייה:  $-1 < x < 1$  וגם  $x \neq \frac{1}{3}$ , תחומי ירידה:  $1 < x \neq 3$  או  $x < -1$ .



ד.  $(0, 2)$  ה.  $x = 3, x = \frac{1}{3}, y = 2$  ו. להלן סקיצה:

21 א.  $x \neq 0$  ב.  $\min(1, 2), \max(-1, -2)$

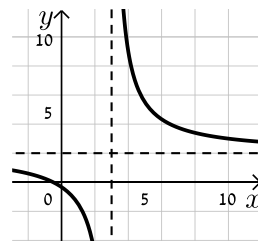
ג. עולה:  $x > 1$  או  $x < -1$ , יורדת:  $-1 < x < 1$ ,  $x \neq 0$  ד. אין



ה. להלן סקיצה:

22 א.  $x \neq 3$  ב. אין ג. הפונקציה יורדת בכל ת.ה.

ד.  $\left(-\frac{1}{2}, 0\right), \left(0, -\frac{1}{3}\right)$  ה.  $y = 2, x = 3$



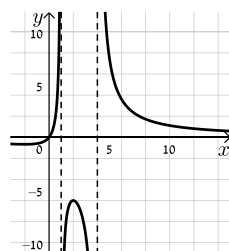
ו. להלן סקיצה:

23 א.  $x \neq 1, x \neq 4$  ב.  $\min\left(-2, -\frac{2}{3}\right), \max(2, -6)$

ג. תחומי עלייה:  $-2 < x < 2$ ,  $x \neq 1$ , תחומי ירידה:  $x < -2$  או  $x > 2$ ,  $x \neq 4$

ד.  $(0, 0)$  (אסימפטוטות:  $y = 0, x = 1, x = 4$ ).

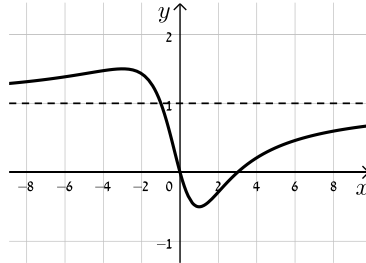
ה. להלן סקיצה:



24) א. כל  $x$       ב.  $\min\left(1, -\frac{1}{2}\right), \max\left(-3, 1\frac{1}{2}\right)$

ד.  $(0,0), (3,0)$  (אסימפטוטה:  $y=1$ ).

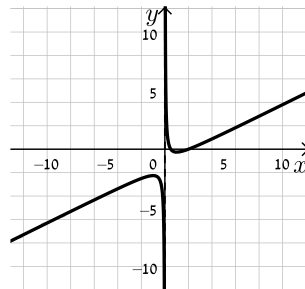
ג. עולה:  $x > 1$  או  $x < -3$ , יורדת:  $-3 < x < 1$   
ה. להלן סקיצה:



25) א.  $x \neq 0$       ב.  $\min(1, -0.25), \max(-1, -2.25)$

ג. עולה:  $x > 1, x < -1$ , יורדת:  $-1 < x < 1, x \neq 0$       ד.  $(0.5, 0), (2, 0)$       ה.  $x=0$

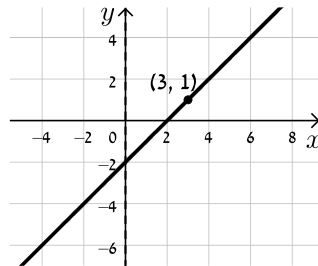
ו. להלן סקיצה:



26) א.  $x \neq 3$       ב. אין      ג. הפונקציה עולה בכל תחום הגדרתה

ד.  $(0, -2), (2, 0)$       ה. אין, יש נקודת אי הגדרה ששיעוריה  $(3, 1)$ .

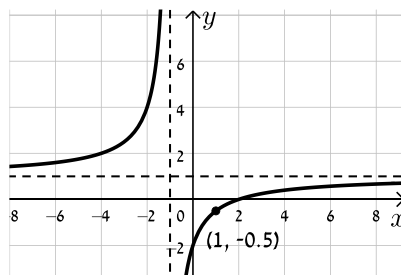
ו. להלן סקיצה:



27) א.  $x \neq \pm 1$       ב. אין      ג. הפונקציה עולה בכל תחום הגדרתה

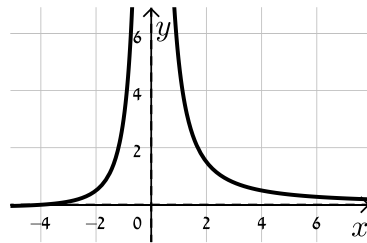
ד.  $(0, -2), (2, 0)$       ה.  $y=1, x=-1$ , יש נקודת אי הגדרה:  $\left(1, -\frac{1}{2}\right)$ .

ו. להלן סקיצה:



28 א.  $f(x) = \frac{x+4}{x^2}$ ,  $a=1$  ב. עולה:  $-8 < x < 0$  יורדת:  $x < -8$ ,  $x > 0$

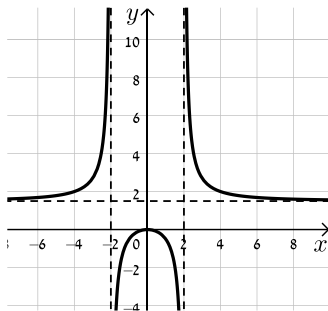
ג.  $(-4, 0)$  ד.  $x=0, y=0$



ה. להלן סקיצה:

29 א.  $x \neq \pm 2$  ב.  $\max(0, 0)$  ג. יורדת:  $x > 0$ ,  $x \neq 2$  עולה:  $x < 0$ ,  $x \neq -2$

ד.  $(0, 0)$  ה.  $x = \pm 2, y = 1.5$  ו. להלן סקיצה:



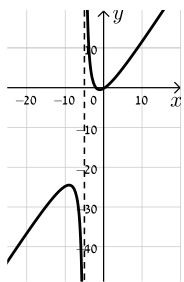
30 א.  $a = \pm 2$  ב.  $(1, 0)$ ,  $(0, 4)$

ג. המשיק:  $y = -4x + 4$  אשר עובר בנקודה  $(1, 0)$ . נקודת החיתוך:  $(1, 0)$ .

31 א.  $x \neq -5$  ב.  $\min(-1, -0.5)$ ,  $\max(-9, -24.5)$

ג. עולה:  $x < -9$ ,  $x > -1$  יורדת:  $-9 < x < -1$ ,  $x \neq -5$

ד.  $(-2, 0)$ ,  $(\frac{1}{3}, 0)$ ,  $(0, -0.2)$  ה.  $x = -5$  ו. להלן סקיצה:



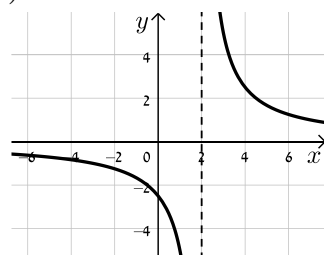
32 א.  $x \neq 1$  ב.  $x=1, y=1$  ג.  $(a, 0), (0, a)$  ד. i.  $a > 1$  ii.  $a = 2$

33 א.  $a = -3$  ב. i.  $x \neq 2$  ii.  $(0, -3)$  iii.  $\max(0, -3)$ ,  $\min(4, 5)$

iv.  $x = 2$  ג.  $x < 2$  ד.  $-3 < k < 5$

34 א.  $A = -1$  ב.  $x \neq 2$  ד.  $(0, -2.5)$

ו. לא



ה. להלן סקיצה:

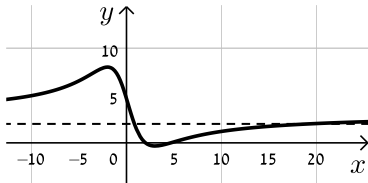
35 א.  $f(x) = \frac{3x^2 - 20x + 28}{x^2 + 6}$ ,  $a = 3$ . כל  $x$ .

ב.  $\min\left(3, -\frac{1}{3}\right)$ ,  $\max(-2, 8)$

ד.  $(2, 0)$ ,  $\left(0, 4\frac{2}{3}\right)$ ,  $\left(4\frac{2}{3}, 0\right)$

ו.  $k = 8$ ,  $-\frac{1}{3}$ ,  $3$

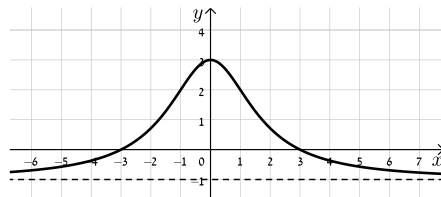
ג. עולה:  $x < -2$ ,  $x > 3$ , יורדת:  $-2 < x < 3$



ה. להלן סקיצה:

ה. באף נקודה.

36 ב.  $k = -3$  ג.  $(3, 0)$ ,  $(-3, 0)$  ד.  $y = -1$



ו. להלן סקיצה:

## חקירת פונקציות שורש:

### שאלות:

- (37)** נתונה הפונקציה:  $f(x) = \sqrt{x-3}$ . חקור את הפונקציה לפי הסעיפים הבאים:
- מציאת תחום ההגדרה.
  - מציאת נקודות הקיצון של הפונקציה.
  - כתיבת תחומי העלייה והירידה של הפונקציה.
  - מציאת נקודות החיתוך של גרף הפונקציה עם הצירים.
  - מציאת אסימפטוטות המקבילות לצירים.
  - שרטוט סקיצה של גרף הפונקציה.
- (38)** נתונה הפונקציה:  $f(x) = (x-4)\sqrt{x-1}$ . חקור את הפונקציה לפי הסעיפים הבאים:
- מציאת תחום ההגדרה.
  - מציאת נקודות הקיצון של הפונקציה.
  - כתיבת תחומי העלייה והירידה של הפונקציה.
  - מציאת נקודות החיתוך של גרף הפונקציה עם הצירים.
  - מציאת אסימפטוטות המקבילות לצירים.
  - שרטוט סקיצה של גרף הפונקציה.
- (39)** נתונה הפונקציה:  $f(x) = x\sqrt{6-x}$ . חקור את הפונקציה לפי הסעיפים הבאים:
- מציאת תחום ההגדרה.
  - מציאת נקודות הקיצון של הפונקציה.
  - כתיבת תחומי העלייה והירידה של הפונקציה.
  - מציאת נקודות החיתוך של גרף הפונקציה עם הצירים.
  - שרטוט סקיצה של גרף הפונקציה.

40 נתונה הפונקציה:  $f(x) = \frac{4\sqrt{x}}{x^2+3}$ . חקור את הפונקציה לפי הסעיפים הבאים:

- א. מציאת תחום ההגדרה.
- ב. מציאת נקודות הקיצון של הפונקציה.
- ג. כתיבת תחומי העלייה והירידה של הפונקציה.
- ד. מציאת נקודות החיתוך של גרף הפונקציה עם הצירים.
- ה. מציאת אסימפטוטות המקבילות לצירים.
- ו. שרטוט סקיצה של גרף הפונקציה.

41 נתונה הפונקציה:  $f(x) = \frac{\sqrt{9-x^2}}{x}$ . חקור את הפונקציה לפי הסעיפים הבאים:

- א. מציאת תחום ההגדרה.
- ב. מציאת נקודות הקיצון של הפונקציה.
- ג. כתיבת תחומי העלייה והירידה של הפונקציה.
- ד. מציאת נקודות החיתוך של גרף הפונקציה עם הצירים.
- ה. מציאת אסימפטוטות המקבילות לצירים.
- ו. שרטוט סקיצה של גרף הפונקציה.

42 נתונה הפונקציה הבאה:  $f(x) = \frac{\sqrt{x^2-2x}}{x^2}$ .

- א. מה הוא תחום ההגדרה של הפונקציה?
- ב. מצא את נקודות קיצון של הפונקציה וקבע את סוגן.
- ג. מצא את נקודת החיתוך של גרף הפונקציה עם ציר ה- $x$ .
- ד. סרטט סקיצה של גרף הפונקציה.

43 נתונה הפונקציה הבאה:  $f(x) = \frac{x^2-4}{\sqrt{x}}$ .

- א. מצא את נקודת החיתוך של הפונקציה עם ציר ה- $x$ .
- ב. האם ניתן להעביר משיק לגרף הפונקציה המקביל לציר ה- $x$ ? נמק והראה חישוב מתאים.
- ג. כתוב את משוואת המשיק לגרף הפונקציה העובר דרך נקודת החיתוך שלה עם ציר ה- $x$ .
- ד. חשב את שטח המשולש הכלוא בין המשיק והצירים.

44 נתונה הפונקציה הבאה:  $f(x) = \frac{x+3}{\sqrt{x}-1}$ .

- מהו תחום הגדרה של הפונקציה?
- כמה נקודות יש לגרף הפונקציה שהמשיק העובר דרכן מקביל לציר ה- $x$ ? מצא אותן.
- כתוב את משוואות המשיקים בנקודות שמצאת בסעיף הקודם.

45 נתונה הפונקציה:  $f(x) = \frac{\sqrt{9-x^2}}{x}$ . חקור לפי הסעיפים הבאים:

- מציאת תחום הגדרה.
- מציאת נקודות קיצון של הפונקציה.
- כתיבת תחומי העלייה והירידה של הפונקציה.
- מציאת נקודות החיתוך של גרף הפונקציה עם הצירים.
- מציאת אסימפטוטות המקבילות לצירים.
- סרטוט סקיצה של גרף הפונקציה.

46 נתונה הפונקציה הבאה:  $f(x) = \frac{ax+6}{\sqrt{9-x^2}}$ , פרמטר  $a$ .

- מעבירים משיק לגרף הפונקציה בנקודת החיתוך שלה עם ציר ה- $y$ . ידוע כי הוא מקביל לישר:  $3y-x=0$ .
- מצא את ערך הפרמטר  $a$ .
  - כתוב את תחום ההגדרה של הפונקציה.
  - מצא את נקודת הקיצון של הפונקציה.
  - כתוב את התחומי העלייה והירידה של הפונקציה.

47 נתונות שתי הפונקציות הבאות:  $f(x) = \frac{x}{\sqrt{x+k}}$ ,  $g(x) = \frac{\sqrt{x-k}}{x}$  ( $k$  פרמטר חיובי).

- ידוע כי הפונקציות חותכות זו את זו בנקודה שבה:  $x=0.8$ .
- מצא את  $k$ .
  - האם הפונקציות נחתכות בנקודה נוספת מלבד לנקודה הנתונה? אם כן מצא אותה.
  - מצא את משוואת המשיק לגרף הפונקציה  $f(x)$  בנקודה שבה:  $x=0.52$ .

48 נתונה הפונקציה הבאה:  $f(x) = \frac{kx}{\sqrt{k-x^2}}$ , פרמטר חיובי.

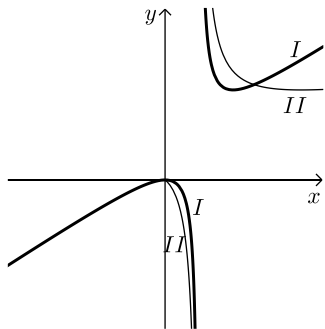
- א. ענה על הסעיפים הבאים:
- מהו תחום ההגדרה של הפונקציה? (בטא באמצעות  $k$ ).
  - מהן האסימפטוטות האנכיות של הפונקציה?
- ב. הראה כי הפונקציה עולה עבור כל ערך של  $k$  בתחום הגדרתה.
- ג. כתוב את משוואת המשיק לגרף הפונקציה בנקודת החיתוך שלה עם ציר ה- $x$ . (בטא באמצעות  $k$ ).
- ד. המשיק אשר מצאת בסעיף הקודם חותך את אחת האסימפטוטות של הפונקציה בנקודה A. ידוע כי שטח המשולש הכלוא בין המשיק, ציר ה- $x$  והאסימפטוטה הנ"ל הוא:  $S = 4$  יח"ש. מצא את ערך הפרמטר  $k$ .

49 נתונה הפונקציה:  $f(x) = \frac{x+2}{x+4}$ . מגדירים פונקציה נוספת:  $g(x) = \sqrt{f(x)}$ .

- א. כתוב בצורה מפורשת את הפונקציה  $g(x)$ .
- ב. לפניך מספר טענות המתייחסות לפונקציות  $f(x)$  ו- $g(x)$ . קבע אילו מהטענות הבאות נכונות ואלו אינן נכונות. הצדק את קביעותיך באמצעות חישוב מתאים:
- לפונקציות תחום הגדרה זהה.
  - שתי הפונקציות עולות בכל תחום הגדרתן.
  - שתי הפונקציות חותכות את ציר ה- $x$  באותה נקודה.
  - לשתי הפונקציות יש אסימפטוטה משותפת.
- ג. מצא את נקודות החיתוך של כל פונקציה עם ציר ה- $y$ . אסף פתר את סעיפים א' ו-ב' והחליט לטעון את הטענה הבאה:
- היות והפונקציה  $g(x)$  מוגדרת להיות:  $g(x) = \sqrt{f(x)}$  אזי ניתן למצוא את שיעור ה- $y$  של כל נקודה שעל גרף הפונקציה  $f(x)$  ע"י כך שנמצא תחילה את שיעור ה- $y$  של הנקודה בעלת אותו שיעור  $x$  על הגרף של  $g(x)$  ונעלה אותה בריבוע.
- ד. האם אסף צודק? נמק בצורה איכותית (חישובים אינם נדרשים) את שיקולך.

50) לפניך הפונקציות הבאות:  $f(x) = \frac{x}{\sqrt{x-1}}$ ,  $g(x) = \frac{x}{\sqrt{x-1}}$

- א. קבע אילו מהטענות הבאות נכונות ואלו אינן נכונות. הצדק את קביעותיך באמצעות חישוב מתאים:
- לשתי הפונקציות יש את אותו תחום ההגדרה.
  - לשתי הפונקציות יש נקודות קיצון הנמצאות על הישר:  $y = x$ .
  - הפונקציות לא חותכות זו את זו.



מגדירים פונקציה נוספת והיא:  $h(x) = (g(x))^2$

ב. כתוב באופן מפורש את הפונקציה החדשה:  $h(x)$ .

ג. האם תחום ההגדרה של הפונקציה  $h(x)$  זהה לשל  $g(x)$ ?

ד. באיור הסמוך ישנם שני גרפים.

קבע על סמך הסעיפים הקודמים איזו פונקציה כל גרף

מתאר מבין הפונקציות:  $f(x)$ ,  $g(x)$ ,  $h(x)$ . נמק את בחירותיך.

51) לפניך שלוש פונקציות:  $f(x) = x^2\sqrt{k-x^2}$ ,  $g(x) = \frac{x^2}{\sqrt{k-x^2}}$ ,  $h(x) = \frac{\sqrt{k-x^2}}{x^2}$  ( $k > 0$ ).

א. קבע אילו מהטענות הבאות נכונות ואלו אינן נכונות. הצדק את קביעותיך באמצעות חישוב מתאים:

- לפונקציות  $f(x)$  ו- $g(x)$  תחום הגדרה זהה, השונה מתחום ההגדרה של  $h(x)$ .
- קיימת פונקציה אשר אינה חותכת את ציר ה- $x$  כלל.
- הפונקציות:  $h(x)$  ו- $g(x)$  הפוכות זו מזו בתחומי העלייה והירידה שלהן (כאשר אחת עולה השנייה יורדת).
- לפונקציה:  $f(x)$  יש נקודת קיצון אחת בלבד.

מסמנים נקודה  $A(0, \sqrt{12})$  על ציר ה- $y$ . ידוע כי מרחקה מאחת מנקודות החיתוך

של גרף הפונקציה  $f(x)$  עם ציר ה- $x$  שאינה בראשית הוא:  $d = 6$ .

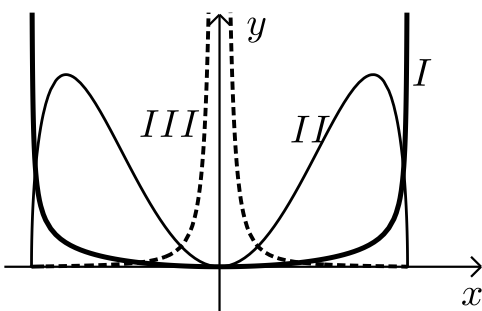
ב. מצא את  $k$ .

ג. מצא את נקודות הקיצון של גרף

הפונקציה  $f(x)$  וקבע את סוגן.

ד. לפניך איור ובו מסורטטות הסקיצות של שלושת הפונקציות.

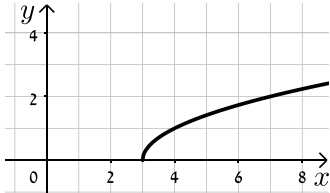
קבע עפ"י הסעיפים הקודמים איזה גרף שייך לכל פונקציה.



**תשובות סופיות:**

**(37)** א.  $x \geq 3$     ב. קצה  $\min(3,0)$     ג. הפונקציה עולה בכל ת.ה.

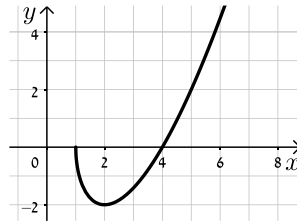
ד.  $(3,0)$     ה. אין.    ו. להלן סקיצה:



**(38)** א.  $x \geq 1$     ב. קצה  $\max(1,0)$ ,  $\min(2,-2)$

ג. עולה:  $x > 2$ , יורדת:  $1 < x < 2$     ד.  $(1,0)$ ,  $(4,0)$     ה. אין.

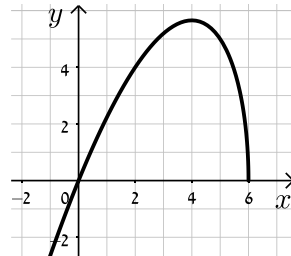
ו. להלן סקיצה:



**(39)** א.  $x \leq 6$     ב. קצה  $\min(6,0)$ ,  $\max(4,4\sqrt{2})$

ג. עלייה:  $x < 4$ , ירידה:  $4 < x < 6$     ד.  $(6,0)$ ,  $(0,0)$

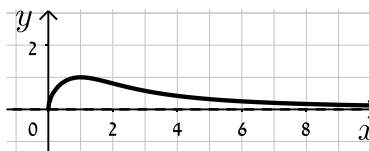
ה. להלן סקיצה:



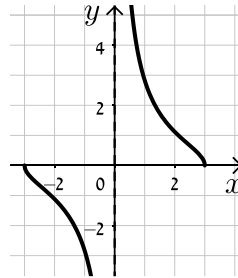
**(40)** א.  $x \geq 0$     ב. קצה  $\min(0,0)$ ,  $\max(1,1)$

ג. עולה:  $0 < x < 1$ , יורדת:  $x > 1$     ד.  $(0,0)$     ה.  $y = 0$

ו. להלן סקיצה:

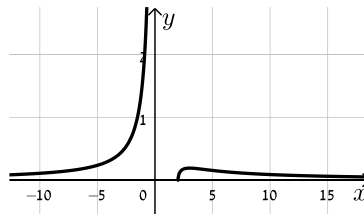


- (41)** א.  $-3 \leq x \leq 3$  וגם  $x \neq 0$       ב.  $\max(-3,0)$  קצה,  $\min(3,0)$  קצה  
 ג. עולה: אף  $x$ , יורדת:  $-3 \leq x \leq 3$ ,  $x \neq 0$       ד.  $(-3,0), (3,0)$



ה.  $x=0$ .      ו. להלן סקיצה:

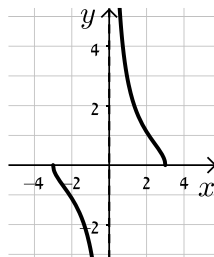
- (42)** א.  $x < 0$ ,  $x \geq 2$       ב.  $\min(2,0)$ ,  $\max\left(3, \frac{1}{\sqrt{27}}\right)$       ג.  $(2,0)$       ד. להלן סקיצה:



- (43)** א.  $(2,0)$       ב. לא      ג.  $y = 2\sqrt{2}x - 4\sqrt{2}$       ד.  $S = 4\sqrt{2}$

- (44)** א.  $x \neq 1$ ,  $x \geq 0$       ב.  $(9,6)$       ג.  $y = 6$

- (45)** א.  $-3 \leq x \leq 3$  וגם  $x \neq 0$       ב.  $\max(-3,0)$  קצה,  $\min(3,0)$  קצה  
 ג. עולה: אף  $x$ , יורדת:  $-3 \leq x \leq 3$  וגם  $x \neq 0$       ד.  $(-3,0), (3,0)$



ה.  $x=0$ .      ו. להלן סקיצה:

- (46)** א.  $a=1$       ב.  $-3 < x < 3$       ג.  $(-1.5, \sqrt{3})$       ד. יורדת:  $-3 < x < -1.5$ , עולה:  $-1.5 < x < 3$

- (47)** א.  $k=0.48$       ב. כן,  $(0.6, 0.57)$       ג.  $y = 0.74x + 0.1352$

- (48)** א. i.  $-\sqrt{k} < x < \sqrt{k}$       ii.  $x = \pm\sqrt{k}$       ב.  $f'(x) = \frac{k^2}{(k-x^2)^{1.5}} > 0$       ג.  $y = \sqrt{k}x$       ד.  $k=4$

$$g(x) = \sqrt{\frac{x+2}{x+4}} \quad \text{א. (49)}$$

ב. i. לא נכון      ii. נכון

$$f(x) : \left(0, \frac{1}{2}\right), g(x) : \left(0, \frac{1}{\sqrt{2}}\right) \quad \text{ג.}$$

iii. נכון      iv. נכון

ד. אסף צודק.

$$h(x) = \frac{x^2}{x-1} \quad \text{ב.}$$

iii. נכון

א. i. לא נכון      ii. נכון      (50)

$$\text{I} = h(x), \text{II} = f(x) \quad \text{ד.}$$

$$h(x) : x \neq 1, \text{ג.}$$

iv. נכון

iii. נכון

ii. לא נכון

i. לא נכון      (51)

$$\text{ב. } k = 24 \quad \text{ג. } \min(0,0), \max(\pm 4, 32\sqrt{2})$$

$$\text{ד. } \text{I} = g(x), \text{II} = f(x), \text{III} = h(x)$$

## תחומי קעירות ונקודות פיתול:

### סיכום כללי:

#### תחומי קעירות – הגדרה:

- פונקציה  $f(x)$  קעורה כלפי מטה (קמורה) בתחום  $[x_0, x_1]$  אם לכל  $x$  בתחום הנ"ל המשיק לפונקציה נמצא מעל לגרף הפונקציה.  
כדי למצוא תחומי קעירות כלפי מטה יש למצוא תחום שבו:  $f''(x) < 0$ .
- פונקציה  $f(x)$  קעורה כלפי מעלה (קעורה) בתחום  $[x_0, x_1]$  אם לכל  $x$  בתחום הנ"ל המשיק לפונקציה נמצא מתחת לגרף הפונקציה.  
כדי למצוא תחומי קעירות כלפי מעלה יש למצוא תחום שבו:  $f''(x) > 0$ .

#### נקודת פיתול – הגדרות:

- נקודת פיתול היא נקודה שבה הפונקציה עוברת מתחום קעירות כלפי מטה לקעירות כלפי מעלה ולהיפך.
- נקודת פיתול מקיימת:  $f''(x) = 0$  כאשר ערך הנגזרת השנייה משנה את סימנו בתחום שלפני ואחרי הנקודה המאפסת אותו.
- בנקודת פיתול המשיק לגרף הפונקציה חותך אותה ולא רק משיק לה מכיוון אחד.

### שאלות:

(52) מצא את נקודות הפיתול ואת תחומי הקעירות של הפונקציה:  $f(x) = x^4 - 6x^3 + 12x^2$ .

(53) מצא את נקודות הפיתול ואת תחומי הקעירות של הפונקציה:  $f(x) = \frac{3x-2}{x^2}$ .

(54) מצא את נקודות הקיצון והפיתול של הפונקציה:  $f(x) = \frac{2x}{\sqrt{x-1}}$ .

(55) מצא את נקודות הקיצון והפיתול של הפונקציה:  $f(x) = x(x-2)^3$ .

56 נתונה הפונקציה:  $f(x) = \frac{a}{x^2 + b}$ ,  $a, b$  פרמטרים.

הנקודה  $(-1, 1)$  היא נקודת פיתול של הפונקציה.  
מצא את ערכי הפרמטרים  $a, b$ .

57 נתונה הפונקציה:  $f(x) = \frac{1}{x} - \frac{1}{x^2} + 2$ . חקור את הפונקציה לפי הסעיפים הבאים:

- א. מציאת תחום הגדרה.
- ב. מציאת נקודות קיצון של הפונקציה.
- ג. כתיבת תחומי העלייה והירידה של הפונקציה.
- ד. מציאת נקודות החיתוך של גרף הפונקציה עם הצירים.
- ה. מציאת אסימפטוטות המקבילות לצירים.
- ו. מציאת נקודות פיתול.
- ז. מציאת תחומי הקעירות כלפי מעלה ומטה.
- ח. סרטוט סקיצה של גרף הפונקציה.

58 נתונה הפונקציה:  $f(x) = \frac{2x}{x - \sqrt{x}}$ . חקור את הפונקציה לפי הסעיפים הבאים:

- א. מציאת תחום הגדרה.
- ב. מציאת נקודות קיצון של הפונקציה.
- ג. כתיבת תחומי העלייה והירידה של הפונקציה.
- ד. מציאת נקודות החיתוך של גרף הפונקציה עם הצירים.
- ה. מציאת אסימפטוטות המקבילות לצירים.
- ו. מציאת נקודות פיתול.
- ז. מציאת תחומי הקעירות כלפי מעלה ומטה.
- ח. סרטוט סקיצה של גרף הפונקציה.

59) חקור את הפונקציות הבאות לפי הסעיפים הבאים :

- i. מציאת תחום הגדרה.
- ii. מציאת נקודות חיתוך עם הצירים.
- iii. מציאת נקודות קיצון וקביעת סוגן.
- iv. מציאת תחומי העלייה והירידה של הפונקציה.
- v. מציאת אסימפטוטות המקבילות לצירים.
- vi. מציאת נקודות הפיתול של הפונקציה.
- vii. מציאת תחומי הקעירות של הפונקציה.
- viii. סרטוט סקיצה של גרף הפונקציה.

$$f(x) = \frac{2x^2}{(x+1)^2} \quad \text{ב.} \qquad f(x) = \frac{x-1}{x^2} \quad \text{א.}$$

$$f(x) = \frac{x^3}{(x+1)^2} \quad \text{ד.} \qquad f(x) = \frac{x^3}{x^2-4} \quad \text{ג.}$$

$$f(x) = \frac{x^2-1}{(x-2)(x-5)} \quad \text{ו.} \qquad f(x) = \left(\frac{x+1}{x-1}\right)^3 \quad \text{ה.}$$

$$f(x) = \frac{x^3-x^2}{x^2-1} \quad \text{ח.} \qquad f(x) = \frac{x^2-4x+3}{x^2-4} \quad \text{ז.}$$

הערה: בסעיפים ו ו-ז יש לבצע חקירה ללא סעיפים vi ו-vii.

**תשובות סופיות:**

52 (1,7), (2,16) , קעירות כלפי מעלה :  $x > 2$  או  $x < 1$  , קעירות כלפי מטה :  $1 < x < 2$  .

53 (2,1) , קעירות כלפי מעלה :  $x > 2$  , קעירות כלפי מטה :  $0 \neq x < 2$  .

54 קיצון :  $\min(2,4)$  , פיתול :  $\left(4, \frac{8}{\sqrt{3}}\right)$  .

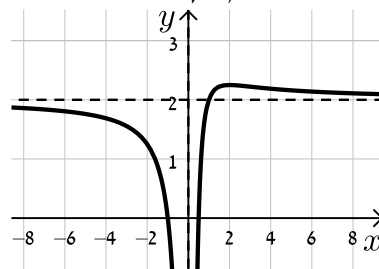
55 קיצון :  $\min\left(\frac{1}{2}, -\frac{27}{16}\right)$  , פיתול : (1,-1), (2,0) .

56  $a = 4, b = 3$  .

57 א.  $x \neq 0$  . ב.  $\max\left(2, 2\frac{1}{4}\right)$  . ג. עולה :  $0 < x < 2$  ; יורדת :  $x > 2, x < 0$  .

ד.  $\left(\frac{1}{2}, 0\right), (-1, 0)$  . ה.  $x = 0, y = 2$  . ו.  $\left(3, 2\frac{2}{9}\right)$  .

ז. קעירות כלפי מעלה :  $x > 3$  , קעירות כלפי מטה :  $0 \neq x < 3$  .

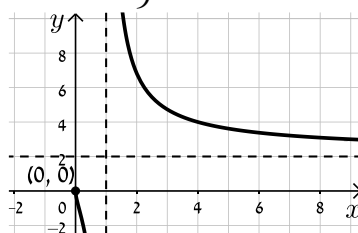


ח. להלן סקיצה :

58 א.  $1 \neq x > 0$  . ב. אין . ג. יורדת בכל תחום הגדרתה .

ד. אין . ה.  $x = 1, y = 2$  נקודת אי הגדרה : (0,0) . ו.  $\left(\frac{1}{9}, -1\right)$  .

ז. קעירות כלפי מעלה :  $x > 1$  או  $0 < x < \frac{1}{9}$  , קעירות כלפי מטה :  $\frac{1}{9} < x < 1$  .



ח. להלן סקיצה :

59 א. i.  $x \neq 0$  . ii. (1,0) . iii.  $x = 0, y = 0$  . iv.  $\max(2, 0.25)$  .

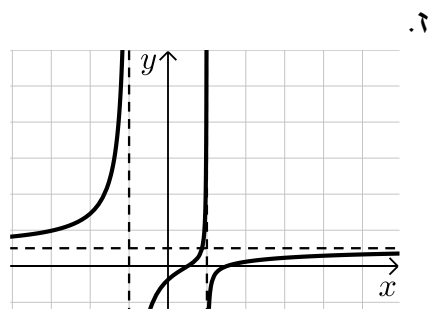
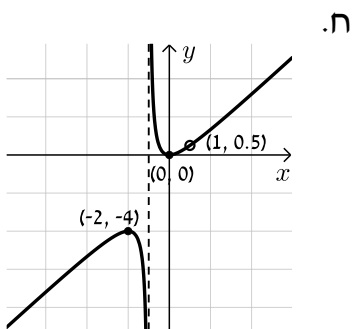
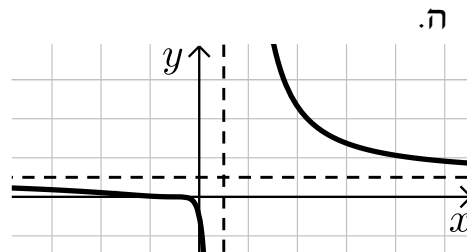
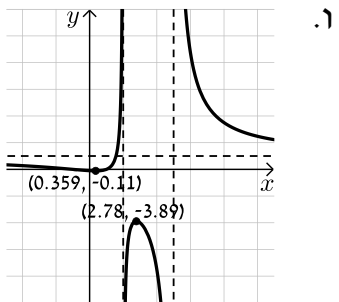
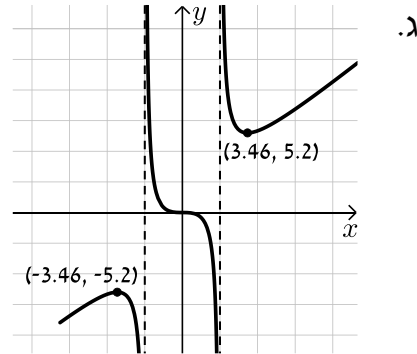
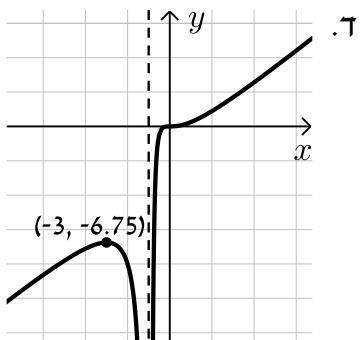
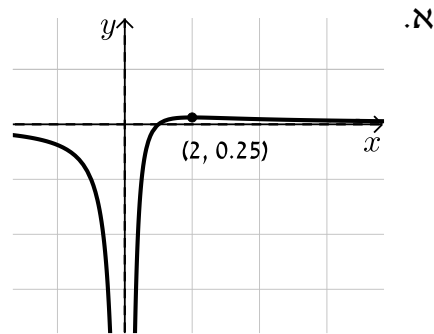
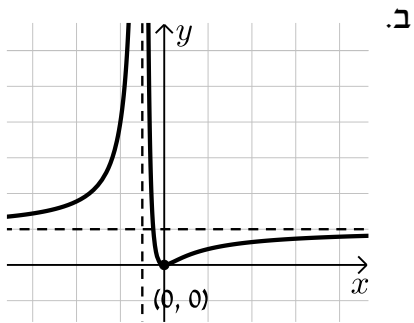
v. עולה :  $0 < x < 2$  , יורדת :  $x < 0, x > 2$  . vi.  $\left(3, \frac{2}{9}\right)$  .

vii. קעורה כלפי מעלה :  $x > 3$  , קעורה כלפי מטה :  $0 < x < 3, x < 0$  .

ב. i.  $x \neq -1$  . ii. (0,0) . iii.  $x = -1, y = 2$  . iv.  $\min(0,0)$  .

- v. עולה:  $x < -1$ ,  $x > 0$ , יורדת:  $-1 < x < 0$  .vi  $\left(\frac{1}{2}, \frac{2}{9}\right)$
- vii. קעורה כלפי מעלה:  $-1 < x < \frac{1}{2}$ , קעורה כלפי מטה:  $x < -1$ ,  $x < \frac{1}{2}$
- ג. i.  $x \neq \pm 2$  .ii  $(0,0)$  .iii  $x = \pm 2$
- iv.  $\min(\sqrt{12}, 5.2)$ ,  $\max(-\sqrt{12}, -5.2)$
- v. עולה:  $x > \sqrt{12}$ ,  $x < -\sqrt{12}$ , יורדת:  $2 < x < \sqrt{12}$ ,  $-2 < x < 2$ ,  $-\sqrt{12} < x < -2$  .vi  $(0,0)$
- vii. קעורה כלפי מעלה:  $x > 2$ ,  $-2 < x < 0$ , קעורה כלפי מטה:  $0 < x < 2$ ,  $x < -2$
- ד. i.  $x \neq -1$  .ii  $(0,0)$  .iii  $x = -1$  .iv  $\max(-3, -6.75)$
- v. עולה:  $x > -1$ ,  $x < -3$ , יורדת:  $-3 < x < -1$  .vi  $(0,0)$
- vii. קעורה כלפי מעלה:  $x > 0$ , קעורה כלפי מטה:  $-1 < x < 0$ ,  $x < -1$
- ה. i.  $x \neq 1$  .ii  $(-1,0), (0,-1)$  .iii  $x = 1, y = 1$  .iv אין
- v. יורדת בכל ת.ה. .vi  $\left(-3, \frac{1}{8}\right), (-1,0)$
- vii. קעורה כלפי מעלה:  $-3 < x < -1$ ,  $x > 1$ , קעורה כלפי מטה:  $-1 < x < 1$ ,  $x < -3$
- ו. i.  $x \neq 2, 5$  .ii  $(0,-0.1), (-1,0), (1,0)$  .iii  $x = 2, x = 5, y = 1$
- iv.  $\min(0.359, -0.11)$ ,  $\max(2.78, -3.89)$
- v. עולה:  $2 < x < 2.78$ ,  $0.359 < x < 2$ , יורדת:  $x > 5$ ,  $2.78 < x < 5$ ,  $x < 0.359$
- ז. i.  $x \neq \pm 2$  .ii  $(3,0), (1,0), (0,-0.75)$  .iii  $x = \pm 2, y = 1$
- iv. אין .v יורדת בכל ת.ה.
- ח. i.  $x \neq \pm 1$  .ii  $(0,0)$  .iii  $x = -1$  .iv  $\min(0,0)$ ,  $\max(-2,-4)$
- v. עולה:  $x > 0$ ,  $x < -2$ ,  $x \neq 1$ , יורדת:  $-1 < x < 0$ ,  $-2 < x < -1$
- vi. אין .vii קעורה כלפי מעלה:  $x > -1$ ,  $x \neq 1$ , קעורה כלפי מטה:  $x < -1$

**סקיצות:**



## חקירת פונקציה עם פרמטר:

### סיכום כללי:

סיווג נקודות קיצון באמצעות  $y''$  :

אם הנקודה  $A(x_1, y_1)$  היא נקודת קיצון אז :

- אם  $f''(x_1) > 0$  הנקודה  $A(x_1, y_1)$  היא נקודת מינימום.
- אם  $f''(x_1) < 0$  הנקודה  $A(x_1, y_1)$  היא נקודת מקסימום.

### שאלות:

(1) מצא וסווג את נקודות הקיצון של הפונקציה:  $f(x) = x^3 - 12x$ .

(2) מצא וסווג את נקודות הקיצון של הפונקציה:  $f(x) = x^2 - 6x - 16$ .

(3) מצא וסווג את נקודות הקיצון של הפונקציה:  $f(x) = x^3 - 3b^2x$ ,  $b > 0$  פרמטר. שרטט סקיצה של גרף הפונקציה.

(4) נתונה הפונקציה:  $f(x) = \frac{2x}{a^2 + x^2}$  ( $a > 0$ ). חקור לפי הסעיפים הבאים :

- א. מציאת תחום ההגדרה.
- ב. מציאת נקודות קיצון של הפונקציה.
- ג. כתיבת תחומי העלייה והירידה של הפונקציה.
- ד. מציאת נקודות החיתוך של גרף הפונקציה עם הצירים.
- ה. מציאת אסימפטוטות המקבילות לצירים.
- ו. שרטוט סקיצה של גרף הפונקציה.

(5) נתונה הפונקציה:  $f(x) = \frac{1-x^2}{(x-b)^2}$ ,  $(b > 1)$ . חקור לפי הסעיפים הבאים:

- א. מציאת תחום ההגדרה.
- ב. מציאת נקודות קיצון של הפונקציה.
- ג. כתיבת תחומי העלייה והירידה של הפונקציה.
- ד. מציאת נקודות החיתוך של גרף הפונקציה עם הצירים.
- ה. מציאת אסימפטוטות המקבילות לצירים.
- ו. שרטוט סקיצה של גרף הפונקציה.

(6) נתונה הפונקציה:  $f(x) = 4x\sqrt{b^2 - x^2}$ ,  $(b > 0)$ .

חקור לפי הסעיפים הבאים:

- א. מציאת תחום ההגדרה.
- ב. מציאת נקודות קיצון של הפונקציה.
- ג. כתיבת תחומי העלייה והירידה של הפונקציה.
- ד. מציאת נקודות החיתוך של גרף הפונקציה עם הצירים.
- ה. שרטוט סקיצה של גרף הפונקציה.

(7) נתונה הפונקציה:  $f(x) = \frac{x^2 - m}{ax - 4}$ ,  $a, m$  פרמטרים קבועים כאשר:  $a > 0$ .

ידוע כי אחת מנקודות הקיצון של הפונקציה נמצאת על ציר ה- $y$ .

- א. מצא את הערך של הפרמטר  $m$ .
- ב. הצב את הערך של  $m$  שמצאת בסעיף א' והבא באמצעות  $a$  את:
  - i. תחום ההגדרה של הפונקציה.
  - ii. נקודות הקיצון של הפונקציה וקבע את סוגן.
  - iii. האסימפטוטות לגרף הפונקציה המקבילות לצירים.
- ג. סרטט סקיצה וסמן בה את נקודות הקיצון ואת משוואות האסימפטוטות שהבעת באמצעות  $a$  בסעיף הקודם.
- ד. ידוע כי נקודת הקיצון שאינה על ציר ה- $y$  נמצאת במרחקים שווים מהצירים. מצא את הערך של הפרמטר  $a$ .
- ה. נתון הישר:  $y = k$ . מצא עבור אילו ערכים של  $k$  אין לישר ולגרף הפונקציה נקודות משותפות כלל.

**תשובות סופיות:**

(1)  $\min(2, -16)$  ,  $\max(-2, 16)$

(2)  $\min(3, -25)$

(3)  $\min(b, -2b^3)$  ,  $\max(-b, 2b^3)$

(4) א. כל  $x$  ב.  $\max\left(a, \frac{1}{a}\right)$  ,  $\min\left(-a, -\frac{1}{a}\right)$

ג. עולה:  $-a < x < a$  יורדת:  $x < -a$  ,  $x > a$

ד.  $(0, 0)$  ה. אסימפטוטה אופקית:  $y = 0$

(5) א.  $x \neq b$  ב.  $\max\left(\frac{1}{b}, \frac{1}{b^2-1}\right)$  ג. עולה:  $x > b$  ,  $x < \frac{1}{b}$  יורדת:  $\frac{1}{b} < x < b$

ד.  $\left(0, \frac{1}{b^2}\right)$  ,  $(-1, 0)$  ,  $(1, 0)$  ה.  $x = b$  ,  $y = -1$

(6) א.  $-b \leq x \leq b$  ב.  $\min\left(-\frac{b}{\sqrt{2}}, -2b^2\right)$  ,  $\max\left(\frac{b}{\sqrt{2}}, 2b^2\right)$  ,  $\min(-b, 0)$  קצה,

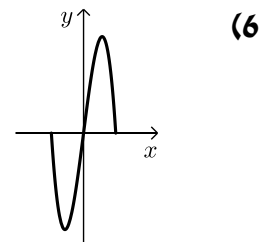
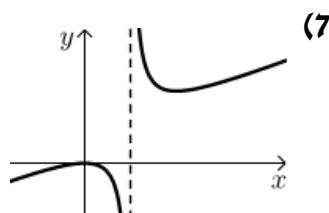
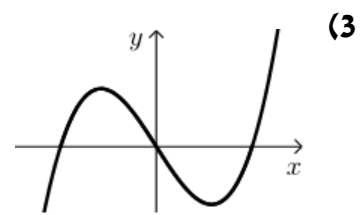
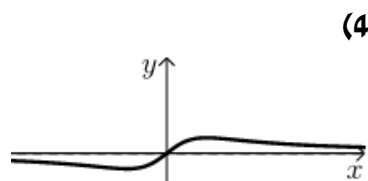
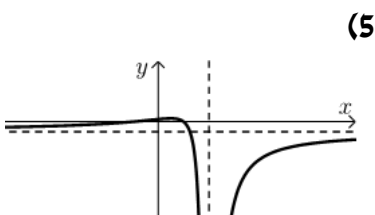
ג. עולה:  $-\frac{b}{\sqrt{2}} < x < \frac{b}{\sqrt{2}}$  , יורדת:  $\frac{b}{\sqrt{2}} < x < b$  ,  $-b < x < -\frac{b}{\sqrt{2}}$

ד.  $(b, 0)$  ,  $(-b, 0)$  ,  $(0, 0)$

(7) א.  $m = 0$  ב.  $x \neq \frac{4}{a}$  ב. ii.  $\max(0, 0)$  ,  $\min\left(\frac{8}{a}, \frac{16}{a^2}\right)$

ג. iii.  $x = \frac{4}{a}$  ד.  $a = 2$  ה.  $0 < k < 4$

**סקיצות לשאלות:**



## פונקציות ללא תבנית מפורשת:

### סיכום כללי:

#### הגדרת פונקציה:

- פונקציה  $f$  היא התאמה בין ערך  $x$  לערך  $y$  ומסומנת באופן הבא:  $f: x \rightarrow y$ .
- כך שלכל  $x$  מתאים ערך אחד בלבד של  $y$ . סימון אחר:  $y = f(x)$ .
- הנגזרת של פונקציה  $f(x)$  מסומנת  $f'(x)$ .

#### כללי הגזירה לפי כלל השרשרת:

- סימון הנגזרת:  $(f(x))' = f'(x)$
- גזירה של פונקציה בחזקה:  $(f^2(x))' = 2f(x)f'(x)$
- גזירה של הרכבת פונקציות:  $(f(g(x)))' = f'(g(x)) \cdot g'(x)$

### שאלות:

- (1) הפונקציה  $f(x)$  מקיימת:  $f(1) = 3$  ו- $f'(1) = -2$ .  
 חשב את ערכי הביטויים הבאים:

א.  $f(1) + 4$

ב.  $f'(1) + 4$

ג.  $\frac{f(1)+1}{f'(1)-1}$

ד.  $\sqrt{f(1)+f'(1)}$

- (2) נתונה פונקציה  $f$  המקיימת:  $f(4) = 0$  ו- $f'(4) = 1$ .

מגדירים:  $g(x) = 2x + f(2x)$ .

חשב את  $g(2)$  ואת  $g'(2)$ .

- (3) נתונה פונקציה המקיימת:  $f(8) = -1$  ו- $f'(8) = 1$ .
- א. נתון:  $g(x) = x^2 \sqrt{f(4x) + f'(x+6)}$ . חשב את  $g(2)$ .
- ב. נתון:  $h(x) = \frac{f(x+2) + x + 2}{f'(14-x) - 14 + x}$ . חשב את  $h(6)$ .
- (4) נתונה פונקציה המקיימת:  $f(9) = -4$ ,  $f'(9) = 3$ .
- מגדירים:  $g(x) = f^2(3x) + f'(x^2)$ . חשב את  $g(3)$ .
- (5) פונקציה  $f$  מקיימת:  $f(4) = 2$ ,  $f'(4) = 1$ .
- מגדירים:  $g(x) = f^2(x) + f(x) + x$ .
- חשב את  $g(4)$  ואת  $g'(4)$ .
- (6) פונקציה  $f$  מקיימת:  $f(1) = -3$ ,  $f'(1) = 3$ . מגדירים:  $g(x) = \frac{x \cdot f(x)}{x + f(x)}$ .
- חשב את  $g(1)$  ואת  $g'(1)$ .
- (7) פונקציה  $f$  מקיימת:  $f(-2) = 6$ ,  $f'(-2) = 2$ . מגדירים:  $g(x) = \sqrt{f^2(x) + 1}$ .
- חשב את  $g(-2)$  ואת  $g'(-2)$ .
- (8) פונקציה  $f$  מקיימת:  $f\left(\frac{1}{2}\right) = 3$ ,  $f'\left(\frac{1}{2}\right) = \frac{4}{3}$ . מגדירים:  $g(x) = 3x \cdot f(2x)$ .
- חשב את  $g\left(\frac{1}{4}\right)$  ואת  $g'\left(\frac{1}{4}\right)$ .
- (9) פונקציה  $f$  מקיימת:  $f(6) = \frac{2}{3}$ ,  $f'(6) = -\frac{3}{2}$ . מגדירים:  $g(x) = \frac{x+3+f(x+3)}{f(2x)+3}$ .
- חשב את  $g(3)$  ואת  $g'(3)$ .

**(10)** נתונה פונקציה המקיימת:  $f(8) = -3$ . מגדירים:  $g(x) = \frac{f(4x)+1}{f(x+6)+2}$ .

א. חשב את  $g(2)$ .

ב. חשב את  $f'(8)$  אם ידוע כי:  $g'(2) = 1$ .

ג. חשב את  $f'(8)$  אם ידוע כי:  $g'(2) = (f'(8))^2$  וכי  $f'(8) < 0$ .

**(11)** נתונה פונקציה המקיימת:  $f(3) = -2$ .

מגדירים:  $g(x) = \frac{x^2 \cdot f(x-2)}{f(2x-7)}$  וידוע כי  $g'(5) = -15$ .

חשב את  $g(5)$  ואת  $f'(3)$ .

**(12)** נתונה פונקציה שמקיימת:  $f(4) = \frac{1}{2}$ .

מגדירים:  $g(x) = x^2 \cdot f(x^2) + f'^2(x^2)$ .

א. הבע את  $g'(x)$  באמצעות  $f$ .

ב. חשב את  $g(-2)$  ואת  $g(2)$  אם ידוע כי  $f'(4) = 1$ .

ג. חשב את  $f'(4)$  אם ידוע כי  $g'(2) = 11$  ו-  $f''(4) = \frac{1}{4}$ .

## תשובות סופיות:

- א. 7      ב. 2      ג.  $-\frac{4}{3}$       ד. 1.
- (1)  $g(2) = 4, g'(2) = 4$
- (2)  $g(2) = 0$       א.      ב.  $h(6) = -1$
- (3)  $g(3) = 19$
- (4)  $g(4) = 10, g'(4) = 6$
- (5)  $g(1) = 1.5, g'(1) = 3$
- (6)  $g(-2) = \sqrt{37}, g'(2) = \frac{12}{\sqrt{37}}$
- (7)  $g\left(\frac{1}{4}\right) = \frac{9}{4}, g'\left(\frac{1}{4}\right) = 11$
- (8)  $g(3) = 1\frac{9}{11}, g'(3) = \frac{327}{242} = 1.351$
- (9) א.  $g(2) = 2$       ב.  $f'(8) = -\frac{1}{2}$       ג.  $f'(8) = -2$
- (10)  $g(5) = 25, f'(3) = -2$
- (11) א.  $g'(x) = 2xf(x^2) + 2x^3f'(x^2) + 4xf'(x^2)f''(x^2)$
- (12) א.      ב.  $g(2) = 3, g'(-2) = 3$       ג.  $f'(4) = \frac{1}{2}$