

# מבוא לסטטיסטיקה



$$\{\sqrt{x}\}^2$$



## תוכן העניינים

1	סטטיסטיקה תיאורית-הקדמה
4	סטטיסטיקה תיאורית- הצגה של נתונים
15	סטטיסטיקה תיאורית-גבולות מדומים ואמיתיים
17	סטטיסטיקה תיאורית- סכימה
21	סטטיסטיקה תיאורית - מדדי מיקום מרכזי
30	סטטיסטיקה תיאורית - מדדי פיזור - הטווח, השונות וסטיית התקן
33	סטטיסטיקה תיאורית - מדדי פיזור - טווח בין רבעוני
35	סטטיסטיקה תיאורית-ממוצע משוקלל ושונות מצורפת
37	סטטיסטיקה תיאורית- מדדי מיקום יחסי-ציון תקן
39	סטטיסטיקה תיאורית-מדדי מיקום יחסי-אחוזונים במחלקות
42	סטטיסטיקה תיאורית - טרנספורמציה לינארית
45	סטטיסטיקה תיאורית - שאלות מסכמות
52	התפלגויות רציפות מיוחדות - התפלגות נורמלית
59	הסקה סטטיסטית - הקדמה
62	התפלגות הדגימה ומשפט הגבול המרכזי
70	מושגי יסוד באמידה
75	רווח סמך לתוחלת (ממוצע)
85	רווח סמך לפרופורציה
91	רווח סמך להפרש תוחלות (ממוצעים) במדגמים בלתי תלויים
95	רווח סמך לתוחלת (ממוצע) ההפרשים במדגמים מזווגים
97	רווח סמך לשונות וסטיית תקן
102	רווח סמך ליחס שונויות
106	שאלות מסכמות על רווחי סמך

# תוכן העניינים

109	24. מבוא לבדיקת השערות על פרמטרים
115	25. בדיקת השערות על תוחלת (ממוצע)
138	26. בדיקת השערות על פרופורציה
145	27. בדיקת השערות על הפרש תוחלות במדגמים בלתי תלויים
160	28. בדיקת השערות לתוחלת ההפרש במדגמים מזווגים
166	29. הקשר בין רווח סמך לבדיקת השערות להפרש תוחלות
169	30. בדיקת השערות על שוניות
180	31. ניתוח שונות חד כיוונית
189	32. מקדם המתאם ( מדד קשר ) הלינארי ומובהקותו
209	33. רגרסיה
212	34. מדדי קשר-רגרסיה -שונות מוסברת ושונות לא מוסברת
215	35. שאלות מסכמות בבדיקת השערות

# מבוא לסטטיסטיקה

פרק 1 - סטטיסטיקה תיאורית-הקדמה

תוכן העניינים

1. כללי ..... 1

## סטטיסטיקה תיאורית – הקדמה:

### רקע:

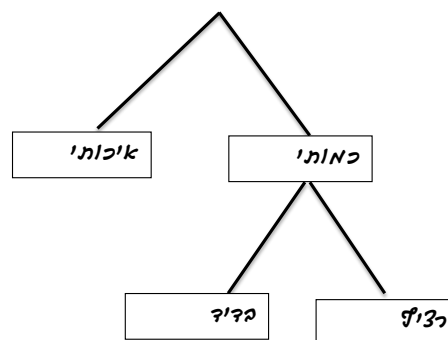
בסטטיסטיקה תיאורית אנו חוקרים קבוצה מסוימת, שיכולה להיות קבוצת ילדים בגן, קבוצת מניות בתיק, כלל התושבים בעיר מסוימת וכו'. בין ישות לישות בקבוצה ישנם גורמים היכולים לקבל מספר ערכים. גורמים אלה נקראים משתנים. למשל, בין מניה למניה בתיק משתנה התשואה היומית של המניה, הוותק של המניה, תחום המניה וכדומה. בסטטיסטיקה תיאורית אנחנו נתבונן בקבוצה מסוימת ובתוך הקבוצה הזו נאסוף נתונים לגבי משתנה מסוים ונלמד להציג את הנתונים ולנתח אותם מכל מיני אספקטים.

### דוגמה:

בתיק מניות 10 מניות. מנהל התיק פרסם את התשואה של כל מניה בשנת 2011.

- 1) מי הקבוצה הנחקרת?
- 2) מה גודל הקבוצה?
- 3) מה המשתנה הנחקר?

### סוגי משתנים:



### משתנה איכותי

משתנה שלערכיו אין משמעות של יותר או פחות, אין עניין כמותי לערכים המתקבלים. כמו: מקום מגורים של אדם (רעננה, תל אביב, אשדוד...), מין האדם (זכר, נקבה) ומצב משפחתי (רווק, נשוי, גרוש, אלמן).

### משתנה כמותי

משתנה שערכיו הם מספרים, להם יש משמעות כמותית כמו: גובה אדם בס"מ, ציון בבחינה וכדומה.

את המשתנה הכמותי נסווג לשני סוגים:

1. משתנה בדיד – משתנה שערכיו מתקבלים מתוך סידרה של ערכים אפשריים. כמו: מספר ילדים למשפחה (1,2,3...). וציון בבחינה (מ-0 ועד 100 בקפוצות של 1).
2. משתנה רציף – משתנה שערכיו מתקבלים מתוך אינסוף ערכים בתחום מסוים. הערכים מתקבלים ברצף וללא קפיצות של ערכים. כמו: גובה בס"מ – אם למשל, הגובה הנמוך ביותר הוא 150 ועד 190 ס"מ בקבוצה הגבהים הם ברצף. גם בין 160 ל-161 ס"מ יש רצף אינסופי של ערכים אפשריים לגובה (160.33 ס"מ הוא גם גובה אפשרי), משקל בק"ג, מהירות בקמ"ש וכולי.

## שאלות:

- (1) סווגו את המשתנים הבאים לפי: איכותי / כמותי בדיד / כמותי רציף:
- מספר הדירות בבניין.
  - גיל אדם בשנים.
  - אחוז האבטלה בעיר.
  - מקצוע לימוד מועדף.

- (2) להלן התפלגות מספר האיחורים לעבודה בחודש של העובדים בחברת "סטאר":

מספר האיחורים	מספר העובדים
0	17
1	23
2	85
3	50
4	25

בחברה 200 עובדים.

- מהו המשתנה הנחקר כאן?
  - האם מדובר במשתנה איכותי או כמותי?
  - אם הוא כמותי האם הוא בדיד או רציף?
- (3) להלן רשימה של משתנים כמותיים, ציינו ליד כל אחד אם הוא רציף או בדיד:
- שכר עובד ב-ש.
  - ציון בחינת בגרות.
  - תוצאה בהטלת קובייה.
  - מהירות ריצה בתחרות.
  - שיעור התמיכה בממשלה.

## תשובות סופיות:

- כמותי בדיד.
  - כמותי רציף.
  - כמותי רציף.
  - איכותי.
- מספר איחורים.
  - כמותי בדיד.
- רציף.
  - בדיד.
  - רציף.
  - רציף.

# מבוא לסטטיסטיקה

פרק 2 - סטטיסטיקה תיאורית- הצגה של נתונים

תוכן העניינים

1. כללי ..... 4

## סטטיסטיקה תיאורית – הצגה של נתונים:

### רקע:

דרכים להצגת נתונים שנאספו:

### רשימה של תצפיות:

התצפית היא הערך שנצפה עבור ישות מסוימת בקבוצה. רושמים את התצפיות שהתקבלו כרשומה, יעיל שיש מספר מועט של תצפיות. ההצגה הזו רלבנטית לכל סוגי המשתנים. למשל, להלן מספר החדרים בבניין בן 5 דירות: 4, 3, 5, 4, 3.

### טבלת שכיחויות בדידה:

שם המשתנה- $X$	שכיחות – $f(x)$	שכיחות יחסית באחוזים
$X_1$	$f_1$	$\frac{f_1}{N} \cdot 100$
$X_2$	$f_2$	$\frac{f_2}{N} \cdot 100$
$X_3$	$f_3$	$\frac{f_3}{N} \cdot 100$
$\vdots$	$\vdots$	$\vdots$
$X_k$	$f_k$	$\frac{f_x}{N} \cdot 100$
<b>סה"כ</b>	$N = \sum_{i=1}^k f_i$	100%

רושמים את התצפיות בטבלה שבה עמודה אחת מבטאת את ערכי המשתנה והשנייה את השכיחות. יעיל עבור משתנה איכותי וכמותי בדיד וכשיש מספר רב של תצפיות. לא יעיל למשתנה כמותי רציף.

**דוגמה:**

להלן התפלגות הציונים בכיתה מסוימת:

$\frac{f_i}{n}$	$F_i$	מספר התלמידים – השכיחות $f$	הציון $X$
$0.08=2/25$	2	2	5
$0.16=4/25$	6	4	6
$0.32=8/25$	14	8	7
$0.2=5/25$	19	5	8
$0.16=4/25$	23	4	9
$0.08=2/25$	25	2	10

שכיחות מצטברת – צבירה של השכיחויות.

השכיחויות  $F_i$  – השכיחות המצטברת נותנת כמה תצפיות קטנות או שוות לערך.

שכיחות יחסית (פרופורציה) – השכיחות מחולקת לכמות התצפיות הכללי:

$$\frac{f_i}{n} - \text{איזה חלק מהתצפיות בקבוצה שוות לערך.}$$

**טבלת שכיחויות במחלקות:**

משתמשים שהמשתנה כמותי רציף או כאשר יש מספר ערכים רב במשתנה הבדיד וטבלת שכיחויות תהיה ארוכה מידי.

**דוגמה:**

נתנו לקבוצת ילדים לבצע משימה, בדקו את התפלגות זמן הביצוע, בדקות. להלן ההתפלגות שהתקבלה:

מספר הילדים	זמן בדקות
20	0.5-3.5
18	3.5-9.5
14	9.5-19.5
8	19.5-29.5

### דיאגרמת עוגה:

זהו התיאור הגרפי של משתנה איכותי. בדיאגרמת עוגה כל ערך במשתנה מקבל "נתח", שהוא פרופורציונלי לשכיחות היחסית של ערך המשתנה בנתונים.

### התפלגות המצב המשפחתי



### דיאגרמת מקלות:

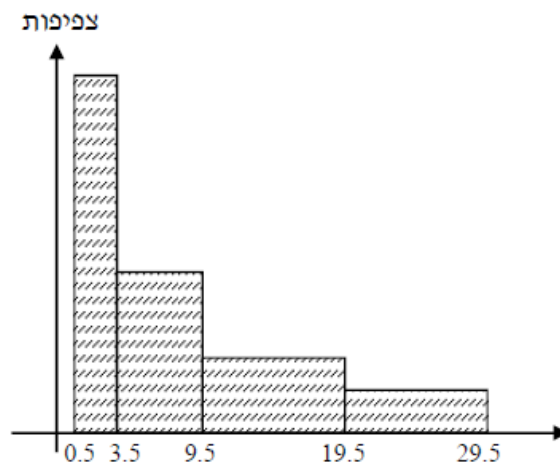
הציר האופקי הוא הציר של המשתנה והציר האנכי של השכיחות, כך שהגובה של המקל מעיד על השכיחות. רלבנטי למשתנה כמותי בדיד. לא נהוג להשתמש בתיאור למשתנה איכותי וכמו כן לא למשתנה כמותי רציף, וכן בסולמות מדידה עבור משתנה מסולם סדר.



### היסטוגרמה:

היסטוגרמה היא הדרך הגרפית כדי לתאר טבלת שכיחויות במחלקות, והיא רלוונטית למשתנה כמותי רציף. בהיסטוגרמה הציר האופקי הוא הציר של המשתנה והציר האנכי הוא הציר של הצפיפות. הצפיפות מחושבת בכל מחלקה על ידי חלוקת השכיחות ברוחב של כל המחלקה, והיא נותנת את מספר התצפיות הממוצע בכל מחלקה ליחידה. אם המחלקות הן שוות ברוחב, ניתן לשרטט את ההיסטוגרמה לפי השכיחות ואין צורך בצפיפות.

צפיפות	מצטברת	שכיחות	אמצע	רוחב	X
6.6667	20	20	2	3	0.5 - 3.5
3	38	18	6.5	6	3.5 - 9.5
1.4	52	14	14.5	10	9.5 - 19.5
0.8	60	8	24.5	10	19.5 - 29.5



### פוליגון – מצולעון:

אם נחבר את אמצע קצה כל מלבן בקווים ישרים. נותן מראה חזותי לצורה של התפלגות המשתנה.

### צורות התפלגות נפוצות:

#### התפלגות סימטרית פעמונית

רוב התצפיות במרכז, וככל שנתרחק מהמרכז יהיו פחות תצפיות באופן סימטרי. לדוגמה, ציוני IQ.



ישנן התפלגויות סימטריות שאינן פעמוניות, כגון:

#### התפלגות אסימטרית ימנית (חיובית)

רוב התצפיות מקבלות ערכים נמוכים ויש מיעוט הולך וקטן של תצפיות שמקבלות ערכים גבוהים קיצוניים. לדוגמה, שכר במשק.

#### התפלגות א-סימטרית ימנית או חיובית



#### התפלגות אסימטרית שמאלית (שלילית)

רוב התצפיות מקבלות ערכים גבוהים ויש מיעוט הולך וקטן של תצפיות שמקבלות ערכים נמוכים קיצוניים. לדוגמה, אורך חיים.

#### התפלגות א-סימטרית שמאלית או שלילית



## שאלות:

- 1) בסקר צפייה בטלוויזיה התקבלו התוצאות הבאות: 25 צפו בערוץ הראשון, 25 צפו בערוץ 10, 75 צפו בערוץ השני, 50 צפו באחד מערוצי הכבלים ו-25 לא צפו בטלוויזיה בזמן הסקר.
- א. רשמו את טבלת השכיחות ואת השכיחות היחסית.
- ב. תארו את הנתונים באופן גרפי.

- 2) להלן נתונים על התפלגות המקצוע המועדף של תלמידי שכבה ו' בבית הספר "מעוף":

המקצוע	מספר התלמידים
מתמטיקה	44
תנ"ך	20
אנגלית	12
היסטוריה	26

- א. מהו המשתנה הנחקר?
- ב. מהי פרופורציית התלמידים שמעדיפים תנ"ך?

- 3) להלן התפלגות ההשכלה במקום עבודה מסוים:

השכלה	מספר העובדים
נמוכה	60
תיכונית	120
אקדמאית	20

- א. מהו המשתנה הנחקר?  
מאיזה סולם הוא?
- ב. תארו את הנתונים באופן גרפי.

- 4) להלן רשימת הציונים של 20 תלמידים שנבחנו במבחן הבנת הנקרא:
- 6, 5, 8, 7, 6, 7, 6, 8, 7, 8, 5, 4, 6, 10, 9, 8, 6, 7.
- א. מהו המשתנה? האם הוא בדיד או רציף?
- ב. תארו את הרשימה בטבלת שכיחויות.
- ג. הוסיפו שכיחויות יחסיות לטבלה.
- ד. תארו את הנתונים באופן גרפי.

5) להלן היסטוגרמה המתארת את התפלגות הגבהים בס"מ של קבוצה מסוימת:



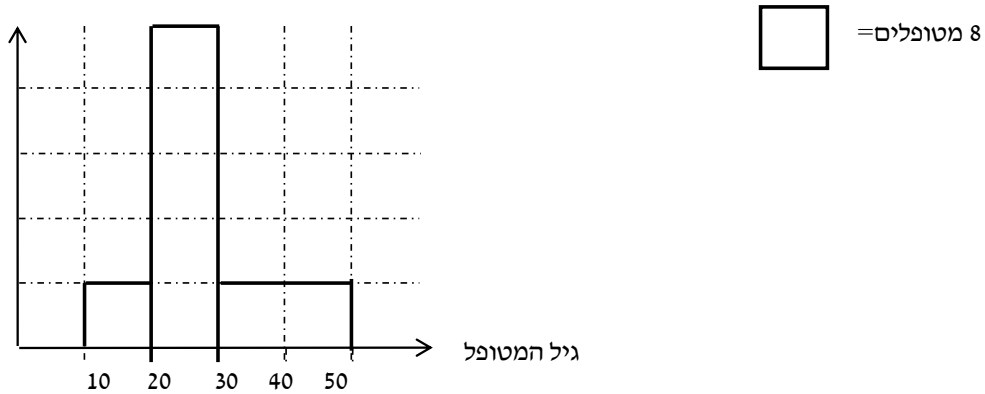
- מהו המשתנה הנחקר? האם הוא בדיד או רציף?
- תארו את הנתונים בטבלת שכיחויות במחלקות.
- הוסיפו שכיחות יחסית לטבלה.
- הוסיפו את הצפיפות של כל מחלקה לטבלה.
- מהי צורת ההתפלגות של הגבהים?

6) להלן התפלגות המשקל של קבוצה מסוימת בק"ג:

מספר מקרים	משקל
10	40-45
20	45-50
30	50-60
20	60-65
10	65-70

- תארו את ההתפלגות באופן גרפי.
- מה ניתן להגיד על צורת ההתפלגות?

7) להלן גיל המטופלים של ד"ר שוורץ בשנים :  
 קנה מידה :



- א. מה המשתנה הנחקר? האם הוא בדיד או רציף?
- ב. מהי הקבוצה הנחקרת?
- ג. תרגמו את ההסיטוגרמה לטבלת שכיחות.
- ד. מהי הפרופורציה של המטופלים של ד"ר שוורץ בגילאים 20-30?

### תשובות סופיות:

ב. עיין גרף מלא בסרטון הוידאו.

1) א. להלן טבלה:

%	$\frac{f(x)}{n}$	$f(x)$	$x$
12.5%	$\frac{25}{200}$	25	ערוץ 1
12.5%	$\frac{25}{200}$	25	ערוץ 10
37.5%	$\frac{75}{200}$	75	ערוץ 2
25%	$\frac{50}{200}$	50	כבלים
12.5%	$\frac{25}{200}$	25	לא צפו
100%	1	200	סה"כ

ב. 19.6%.

2) א. מקצוע מועדף.

ב. עיין גרף מלא בסרטון הוידאו.

3) א. משתנה נחקר: השכלה, סוג: סדר.

4) א. המשתנה : ציון, משתנה בדיד.  
ד. עיין גרף מלא בסרטון הוידאו.

ב+ג. להלן טבלה :

%	$\frac{f(x)}{n}$	$f(x)$	$x$
5%	$\frac{1}{20}$	1	4
10%	$\frac{2}{20}$	2	5
30%	$\frac{6}{20}$	6	6
20%	$\frac{4}{20}$	4	7
20%	$\frac{4}{20}$	4	8
10%	$\frac{2}{20}$	2	9
5%	$\frac{1}{20}$	1	10
100%	20	20	סה"כ

5) א. גובה בס"מ, רציף.

ב+ג+ד. להלן טבלה : ה. אסימטרית.

$d$	%	$\frac{f(x)}{n}$	$f(x)$	$x$
1	5%	$\frac{5}{100}$	5	155-160
2	10%	$\frac{10}{100}$	10	160-165
3	15%	$\frac{15}{100}$	15	165-170
4	40%	$\frac{40}{100}$	40	170-180
3	30%	$\frac{30}{100}$	30	180-190

- 6) א. עיין גרף מלא בסרטון הוידאו.  
 ב. סימטרית.
- 7) א. המשתנה: גיל בשנים, משתנה רציף.  
 ב. המטופלים של ד"ר שוורץ.  
 ד. להלן טבלה:  
 ה. 62.5%.

$f(x)$	$x$
8	10-20
40	20-30
16	30-50

# מבוא לסטטיסטיקה

פרק 3 - סטטיסטיקה תיאורית-גבולות מדומים ואמיתיים

תוכן העניינים

1. כללי ..... 15

## סטטיסטיקה תיאורית – גבולות מדומים וגבולות אמיתיים:

### רקע:

עבור משתנה רציף נהוג לתאר את הנתונים בטבלת שכיחויות במחלקות. הנתונים שנאספים הם ברמת דיוק מסוימת. לדוגמה: משקל של בני אדם ומשקל של יהלומים ישקלו ברמת דיוק שונה.

### גבולות מדומים:

כאשר גבול עליון של מחלקה אחת שונה מגבול תחתון של המחלקה הבאה אז הגבולות הם גבולות מדומים. כשהגבולות מדומים, ההפרש בין גבול תחתון של מחלקה לבין גבול עליון של המחלקה הקודמת יהיה רמת הדיוק.

**רמת הדיוק חייבת להיות קבועה** - אין אפשרות שחלק מהאנשים נדייק ברמה אחת ואת השאר ברמה אחרת. בגלל שהמשתנה הוא משתנה רציף, כשננתח את הנתונים נעבור מגבולות מדומים לגבולות אמיתיים. אם הנתונים יינתנו בגבולות מדומים נהפוך אותם תמיד לגבולות אמיתיים.

כיצד עוברים מגבולות מדומים לגבולות אמיתיים?

לוקחים את רמת הדיוק ומחלקים אותה ב-2, ואת התוצאה המתקבלת מוסיפים לגבולות העליונים ומפחיתים מהגבולות התחתונים. אם יתנו נתונים בגבולות מדומים אנחנו מוכרחים לעבור לגבולות אמיתיים על מנת להמשיך ולנתח, אך אם הנתונים כבר יינתנו בגבולות אמיתיים נשאיר אותם כמו שהם.

### דוגמה (פתרון בהקלטה):

להלן התפלגות הגבהים בס"מ של תלמידי כיתה ח': יש להעביר את הנתונים לגבולות אמיתיים.

$f(x)$	$X$
20	130-139
25	140-149
30	150-159
20	160-169
10	170-189

## שאלות:

- (1) להלן התפלגות של משתנה בהצגה של מחלקות. יש להעביר את הנתונים לגבולות אמיתיים:

$f(x)$	$X$
542	500-590
32	600-690
154	700-790
254	800-890

- (2) להלן התפלגות המשקלים בק"ג של קבוצת אנשים מסוימת. יש לרשום את הנתונים בגבולות אמיתיים:

מספר אנשים	משקל בק"ג
18	60-64
24	65-69
52	70-79
19	80-89

## תשובות סופיות:

- (1) להלן טבלה:

$f(x)$	$x$
542	495-595
32	595-695
154	695-795
254	795-895

- (2) להלן טבלה:

$f(x)$	$x$
18	59.5-64.5
24	64.5-69.5
52	69.5-79.5
19	79.5-89.5

# מבוא לסטטיסטיקה

פרק 4 - סטטיסטיקה תיאורית- סכימה

תוכן העניינים

1. כללי.....17

## סטטיסטיקה תיאורית – סכימה:

רקע:

בסטטיסטיקה ישנה צורת רישום מקובלת לסכום של תצפיות:  $\sum_{i=1}^n X_i$ .

נסביר את צורת הרישום על ידי הדוגמה הבאה:

$i$	$X_i$
1	5
2	0
3	1
4	3
5	2

(הסבר מלא מופיע בסרטונים באתר).

## שאלות:

- 1) בבניין 5 דירות. לכל דירה רשמו את מספר החדרים שיש בדירה ( $X$ ), ומספר הנפשות החיות בדירה ( $Y$ ). חשבו:

$Y$	$X$	מספר דירה
1	2	1
1	3	2
2	2	3
3	4	4
2	3	5

א.  $\sum_{i=1}^3 X_i$

ב.  $\sum_{i=1}^5 Y_i$

ג.  $\sum_{i=1}^4 X_i$

ד.  $\left(\sum_{i=1}^4 X_i\right)^2$

ה.  $\sum X_i$

ו.  $\sum X_i Y_i$

ז.  $\sum(X_i) \sum(Y_i)$

(2) נתון לוח ערכי המשתנים  $X_i$  ו- $Y_i$ , כאשר:  $i = 1, 2, \dots, 6$ , ונתונים הקבועים:  
 $a = 2$ ,  $b = 5$ . חשבו את הנוסחאות הבאות:

$i$	1	2	3	4	5	6
$X_i$	3	2	4	-2	1	4
$Y_i$	2	0	0	1	-5	2

$$\text{א. } \sum_{i=1}^4 y_i$$

$$\text{ב. } \sum_{i=1}^6 a$$

$$\text{ג. } \sum_{i=1}^6 x_i y_i$$

$$\text{ד. } \sum_{i=1}^6 (x_i + y_i)$$

$$\text{ה. } \sum_{i=1}^6 x_i + a$$

(3) קבעו לכל זהות האם היא נכונה:

$$\text{א. } \sum_{i=1}^n bX_i = b \cdot \sum_{i=1}^n X_i$$

$$\text{ב. } \sum_{i=1}^n a = a \cdot n$$

$$\text{ג. } \left( \sum_{i=1}^n X_i \right)^2 = \sum_{i=1}^n X_i^2$$

(4) נתון:  $\sum_{i=1}^{10} X_i = 80$ ,  $\sum_{i=1}^{10} X_i^2 = 1640$

$$\text{חשבו: } \sum_{i=1}^{10} (X_i - 4)^2$$

**תשובות סופיות:**

- |              |         |           |              |
|--------------|---------|-----------|--------------|
| ד. 121.      | ג. 11.  | ב. 9.     | א. 7. (1     |
|              | ז. 126. | ו. 27.    | ה. 14.       |
|              | ג. 7.   | ב. 12.    | א. 3. (2     |
|              |         | ה. 14.    | ד. 12.       |
| ג. לא נכונה. |         | ב. נכונה. | א. נכונה. (3 |
|              |         |           | .1160 (4     |

# מבוא לסטטיסטיקה

פרק 5 - סטטיסטיקה תיאורית - מדדי מיקום מרכזי

תוכן העניינים

1. כללי ..... 21

## סטטיסטיקה תיאורית – מדדי מיקום מרכזי:

### רקע:

המטרה במדדי המיקום המרכזי היא למדוד את מרכז ההתפלגות של התצפיות.

### השכיח – Mode:

השכיח הוא הערך הנפוץ ביותר בהתפלגות.

### ברשימה

הערך החוזר על עצמו הכי הרבה פעמים: 7, 9, 4, 8, 4, 10, 6.

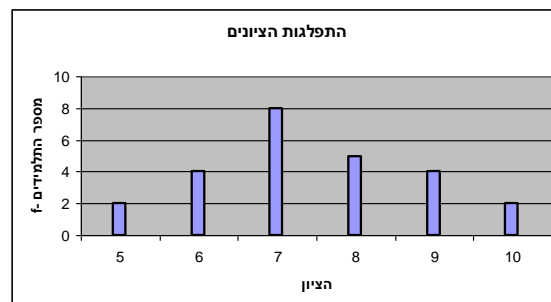
### בטבלת שכיחויות בדידה

הערך שהשכיחות שלו היא הגבוהה ביותר.

$f(x)$	# תוכניות החיסכון
100	0
75	1
25	2
25	3
25	4

### בדיאגרמת מקלות

שיעור ה- $X$  של המקל הגבוה ביותר.



## בעוגה

הערך של הפלח הגדול ביותר.



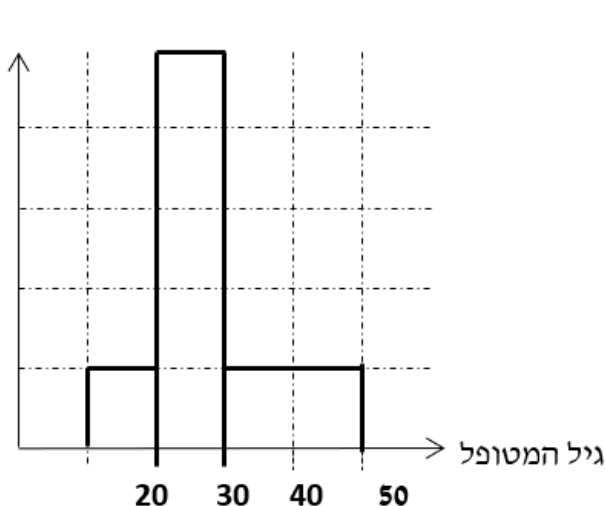
## בטבלת שכיחויות במחלקות

אמצע המחלקה עם הצפיפות הגבוהה ביותר.  
לדוגמה, התפלגות הציונים בכיתה :

$f(x)$	$X$
20	0-60
10	60-70
18	70-80
15	80-90
15	90-100

## בהיסטוגרמה

שיעור ה- $X$  של אמצע המחלקה הגבוהה ביותר.  
לדוגמה, גיל המטופלים של ד"ר שוורץ בשנים :



= 8

**כללי**

יתכן שלהתפלגות יותר משכיח אחד.  
 השכיח הוא מדד הרלבנטי לכל סוגי המשתנים.

**אמצע תחום (טווח) – Midrange:**

הממוצע בין התצפית הגבוהה ביותר לתצפית הנמוכה ביותר:

$$MR = \frac{X_{\min} + X_{\max}}{2}$$

**החציון – Median:**

החציון הוא ערך שמחצית מהתצפיות קטנות או שוות לו ומחצית מהתצפיות גדולות או שוות לו.

**ברשימה**

נסדר את התצפיות בסדר עולה.

אם יש מספר אי זוגי של איברים, מקומו של החציון יהיה התצפית שמיקומה:  $\frac{n+1}{2}$ .

אם יש מספר זוגי של איברים – החציון הוא ממוצע של האיבר ה- $\frac{n}{2}$ ,

והאיבר ה- $\frac{n}{2} + 1$ , כלומר שיש מספר אי-זוגי של תצפיות החציון יהיה:  $md = X_{\frac{n+1}{2}}$ ,

וכשיש מספר זוגי של תצפיות החציון יהיה:  $md = \frac{X_{\frac{n}{2}} + X_{\frac{n}{2}+1}}{2}$ .

**בטבלת שכיחויות בדידה**

נעשה תהליך דומה אך נעזר בשכיחות המצטברת.

**דיאגרמת מקלות**

נמיר לטבלת שכיחויות בדידה במטרה למצוא את החציון.

### בטבלת שכיחויות במחלקות

שלב א: נמצא את המחלקה החציונית שמיקומה יהיה  $\frac{n}{2}$ .

שלב ב: נציב בנוסחה הבאה:  $Md = L_0 + \frac{\frac{n}{2} - F(x_{m-1})}{f(x_m)} \cdot (L_1 - L_0)$

$F(x_{m-1})$  - שכיחות מצטברת של מחלקה אחת לפני המחלקה החציונית.  
 $f(x_m)$  - השכיחות של המחלקה החציונית.

$L_0$  - גבול התחתון של המחלקה.

$L_1$  - גבול העליון של המחלקה.

### היסטוגרמה

החציון הוא הערך על ציר ה- $X$  שמחלק את ההיסטוגרמה לשני חלקים שווים בשטח.

### כללי

החציון אינו רלבנטי למשתנה מסולם שמי ולא רלבנטי למשתנה איכותי.

### הממוצע – Average :

הממוצע הוא מרכז הכובד של ההתפלגות.

### ברשימה

$$\bar{x} = \frac{\sum_{i=1}^n x_i}{n}$$

### בטבלת שכיחויות

$$\bar{x} = \frac{\sum x \cdot f}{n}$$

## במחלקות

נשתמש באותה נוסחה רק נתייחס לאמצע המחלקה בתור ה-  $X$ .  
הממוצע הזה יהיה ממוצע מקורב.

## כללי

הממוצע רלבנטי רק למשתנה כמותי.

## מדדי המיקום המרכזי בהתפלגויות המיוחדות:

בהתפלגות סימטרית פעמונית כל מדדי המרכז שווים זה לזה:

### התפלגות סימטרית



בהתפלגות סימטרית השכיח לא חייב להיות במרכז:

### התפלגות U



התפלגות  
א-סימטרית  
שמאלית או  
שלילית



התפלגות א-סימטרית  
ימנית או חיובית



## שאלות:

- (1) להלן רשימת הציונים של 20 תלמידים שנבחנו במבחן הבנת הנקרא:  
 6, 5, 8, 7, 6, 6, 7, 6, 8, 7, 5, 4, 6, 10, 9, 8, 6, 7.  
 חשבו את החציון, השכיח, והממוצע של הציונים.
- (2) בדקו את מספר החדרים לדירה בבניין בן 5 דירות והתקבל ממוצע 3.8.  
 לגבי 4 דירות נמצא מספר חדרים: 5, 4, 3, 4.  
 א. כמה חדרים יש בדירה החמישית?  
 ב. מהו השכיח ומהו החציון?
- (3) להלן התפלגות מספר מקלטי הטלוויזיה שנספרו עבור כל משפחה בישוב מסוים:

מספר משפחות	מספר מקלטים
22	0
28	1
18	2
22	3
10	4

- א. חשבו את הממוצע, החציון והשכיח של ההתפלגות.  
 ב. הסבירו ללא חישוב כיצד כל מדד שחישבת בסעיף א' היה משתנה אם חלק מהמשפחות (לא כולן) שלא היה להם עד היום טלוויזיה היו רוכשים מקלט אחד.

- (4) להלן התפלגות מספר המכוניות למשפחה בישוב "הגורן":

מספר מכוניות למשפחה	1	2	3	4	5
שכיחות	65	150	220	140	55

- א. כמה משפחות יש בישוב?  
 ב. מה אחוז המשפחות בישוב עם לכל היותר 2 מכוניות?  
 ג. חשבו את הממוצע, החציון והשכיח.  
 הקפידו להסביר לגבי כל סעיף מה משמעות התוצאה שקיבלתם!



5) מורה לימד 2 כיתות, הוא תיאר באותה מערכת צירים את התפלגות הציונים בכל כיתה. בחרו בתשובה הנכונה:

- בכיתה 1 השכיח גבוה יותר מכיתה 2.
- בכיתה 2 השכיח גבוה יותר מכיתה 1.
- בשתי הכיתות אותו שכיח.
- לא ניתן לדעת באיזו כיתה השכיח גדול יותר.

6) ביישוב מסוים בדקו לכל משפחה את מספר הטלוויזיות שיש לה בבית. ביישוב גרות 200 משפחות. בממוצע יש למשפחה 1.5 טלוויזיות.

מספר טלוויזיות	מספר משפחות
0	28
1	62
2	
3	

- השלימו את הטבלה.
- מהו השכיח, אמצע טווח והחציון.
- חלק מהמשפחות להן הייתה טלוויזיה אחת בדיוק הוציאו את הטלוויזיה מביתם. כיצד כל מדד ישתנה (יגדל, יקטן או לא ישתנה). הסבירו ללא חישוב.

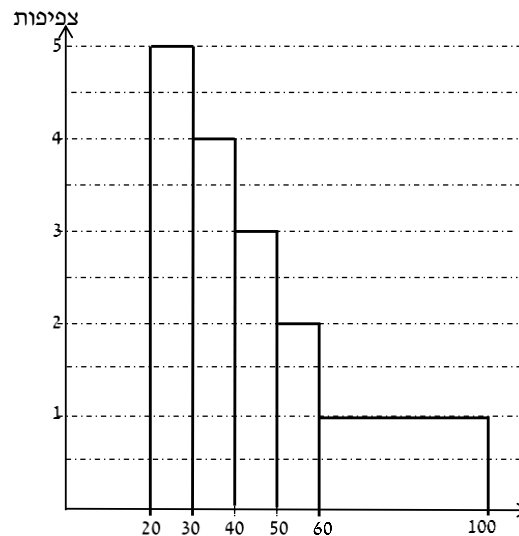
7) להלן התפלגות המשקל של קבוצה מסוימת בק"ג. מה הממוצע והחציון של ההתפלגות?

משקל	מספר מקרים
40-45	10
45-50	20
50-60	30
60-65	20
65-70	10

8) להלן התפלגות הגבהים בס"מ בקבוצה מסוימת. חשבו את הממוצע, החציון והשכיח של הגבהים בקבוצה זו.

גובה בס"מ	שכיחות
150-160	30
160-170	40
170-175	60
175-180	70
180-190	40

9) בפקולטה מסוימת בדקו לסטודנטים העובדים בה את השכר לשעת עבודה. להלן התוצאות:



- מצאו את השכיח בהתפלגות.
- מצאו את החציון בהתפלגות.
- הסבירו ללא חישוב האם הממוצע גדול/קטן/שווה לחציון.
- הסתבר שיש להוציא מספר תלמידים במחלקה בין 20-30 שקלים. כיצד הדבר ישפיע על הממוצע, החציון והשכיח? הסבירו ללא חישוב.

### תשובות סופיות:

- (1) חציון: 7, שכיח: 6, ממוצע: 6.9.
- (2) א. 3. ב. שכיח: 3.4, חציון: 4.
- (3) א. ממוצע: 1.7, חציון: 1.5, שכיח: 1. ב. הממוצע יגדל ויתר המדדים לא ישתנו.
- (4) א. 630. ב. 34.13%. ג. שכיח וחציון: 3, ממוצע: 2.952.
- (5) ב'.
- (6) א. להלן טבלה: ב. חציון: 2, שכיח: 2, אמצע טווח: 1.5.

מספר משפחות	מספר טלויזיות
28	0
62	1
92	2
18	3

ג. שכיח: לא ישתנה, אמצע הטווח: לא ישתנה, חציון: לא ישתנה, ממוצע: יקטן.

- (7) חציון וממוצע: 55.
- (8) ממוצע: 172.6, חציון: 174.17, שכיח: 177.5.
- (9) א. 25. ב. 40. ג. גדול מהחציון. ד. שכיח: לא ישתנה, חציון: יגדל, ממוצע: יגדל.

# מבוא לסטטיסטיקה

פרק 6 - סטטיסטיקה תיאורית - מדדי פיזור - הטווח, השונות וסטיית התקן

תוכן העניינים

1. כללי ..... 30

## סטטיסטיקה תיאורית – מדדי פיזור – הטווח, השונות וסטיית התקן:

### רקע:

**המטרה:** למדוד את הפיזור של הנתונים, כלומר כמה הם רחוקים זה מזה ושונים זה מזה.

**הטווח / תחום (RANGE):**

ההפרש בין התצפית הגבוהה ביותר לנמוכה ביותר:  $R = X_{\max} - X_{\min}$ .

### שונות וסטיית תקן:

שונות היא ממוצע ריבועי של הסטיות מהממוצע וסטיית התקן היא שורש של השונות.

$$S_x^2 = \frac{\sum_{i=1}^n (x_i - \bar{x})^2}{n} = \frac{\sum_{i=1}^n x_i^2}{n} - \bar{x}^2$$

עבור סדרת נתונים:

### דוגמאות:

(1) נחשב את השונות של סדרת המספרים הבאה: 5, 4, 9.

$$S_x^2 = \frac{\sum (x - \bar{x})^2 f}{n} = \frac{\sum x^2 \cdot f}{n} - \bar{x}^2$$

עבור טבלת שכיחויות:

(2) להלן התפלגות הציונים בכיתה מסוימת בה ממוצע הציונים הוא 7.44.

הציון $X$	השכיחות $F$	$x^2 \cdot F$
5	2	50
6	4	144
7	8	392
8	5	320
9	4	324
10	2	200
<b>סה"כ</b>		<b>1430</b>

$$S_x^2 = \frac{\sum x^2 f(x)}{n} - \bar{x}^2 = \frac{1430}{25} - 7.44^2 = 1.8464$$

$$S = \sqrt{S_x^2} = \sqrt{1.8464} = 1.3588$$

כשיש מחלקות נעזר באמצע המחלקה כדי לחשב את השונות.

## שאלות:

1) להלן רשימת הציונים של 20 תלמידים שנבחנו במבחן הבנת הנקרא:  
 6, 5, 8, 7, 6, 8, 6, 7, 8, 5, 6, 7, 6, 8, 7, 6, 4, 5, 10, 9, 8, 6, 7.  
 חשבו את השונות, סטיית התקן והטווח של הציונים.

2) להלן התפלגות מספר המכוניות למשפחה בישוב "הגורן":

מספר מכוניות למשפחה	1	2	3	4	5
שכיחות	65	150	220	140	55

א. חשבו סטיית התקן.

ב. חשבו את הטווח של הנתונים.

הקפידו להסביר לגבי כל סעיף מה משמעות התוצאה שקיבלתם.

3) בחברה העוסקת בטלמרקטינג בדקו עבור כל עובד את מספר שנות הוותק שלו. התקבל שממוצע שנות הוותק הוא 4 שנים וסטיית התקן היא שנתיים.

א. האם הממוצע יגדל/יקטן/לא ישתנה וסטיית התקן תגדל/תקטן/לא תשנה כאשר יתווספו שני עובדים עם וותק של 4 שנים להתפלגות?

ב. האם הממוצע יגדל/יקטן/לא ישתנה וסטיית התקן תגדל/תקטן/לא תשנה כאשר יתווספו שני עובדים אשר אחד עם וותק של 0 שנים והשני עם וותק של 8 שנים להתפלגות?

4) נתונה רשימה של 5 תצפיות, אך רק עבור 4 מהן נרשמו הסטיות שלהן מהממוצע: 2, 3, 2, 1. חשבו את השונות של חמש התצפיות.

5) בשכונה בדקו בכל דירה את מספר החדרים לדירה. בשכונה 200 דירות.

מספר חדרים	פרופורציה
1	0.1
2	0.2
3	0.4
4	0.15
5	

א. מה הממוצע של מספר החדרים לשכונה בדירה?

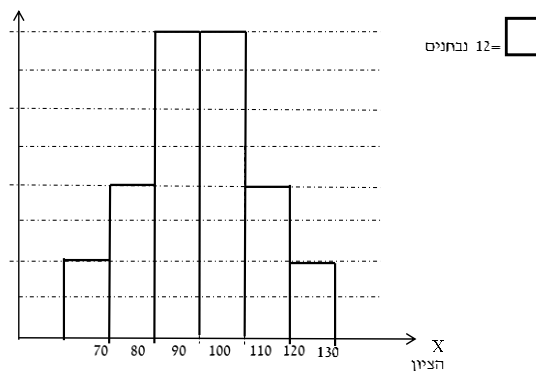
ב. חשבו את סטיית התקן של מספר החדרים לדירה.

ג. חלק מבעלי הדירות בנות 2 החדרים הפכו את דירתם לדירת חדר. כיצד הדבר ישפיע (יקטין, יגדל, לא ישנה) על כל מדד שחישבתם בסעיפים הקודמים.

6) להלן התפלגות המשקל של קבוצה מסוימת בק"ג: מהי סטיית התקן של התפלגות המשקל?

משקל	מספר מקרים
40-45	10
45-50	20
50-60	30
60-65	20
65-70	10

7) להלן התפלגות הציונים במבחן אינטליגנציה:



- א. מה הממוצע ומה החציון של ההתפלגות?  
 ב. חשבו את סטיית התקן של הציונים.  
 ג. מסתבר שיש להוסיף 20 תצפיות לכל אחת משתי המחלקות 90-100 ו-100-110. כיצד הדבר ישתנה את כל אחד מהמדדים של הסעיפים הקודמים?

### תשובות סופיות:

- 1) שונות: 2.19, סטיית תקן: 1.48, טווח: 6.  
 2) א. סטיית תקן: 1.106. ב. טווח: 4.  
 3) א. ממוצע לא ישתנה, סטיית התקן תקטן.  
 ב. ממוצע לא ישתנה, סטיית התקן תגדל.  
 4) 10.8  
 5) א. 3.05. ב. 1.16. ג. ממוצע: יקטן, סטיית התקן: תגדל.  
 6) 7.73  
 7) א. 100. ב. 12.96. ג. ממוצע: לא ישתנה, סטיית תקן: תקטן.

# מבוא לסטטיסטיקה

פרק 7 - סטטיסטיקה תיאורית - מדדי פיזור - טווח בין רבעוני

תוכן העניינים

1. כללי ..... 33

## סטטיסטיקה תיאורית – מדדי פיזור – טווח בין רבעוני:

רקע:

הטווח הבין-רבעוני נותן את הטווח בין הרבעונים בו נמצאים 50% מהתצפיות המרכזיות.

שלבם במציאת טווח בין-רבעוני במחלקות:

$F$	$f$ מספר עובדים (שכחות)	רוחב $L_1 - L_0$	מספר שנות ותק
56	56	4	0.5 – 4.5
106	50	5	4.5 – 9.5
154	48	2	9.5 – 11.5
190	36	3	11.5 – 14.5
200	10	5	14.5 – 19.5

שלב א:

נמצא את הרבעון התחתון (אחוזון 25) והרבעון העליון (האחוזון ה-75).

מיקום הרבעון התחתון יהיה:  $\frac{n}{4}$ . מיקום הרבעון העליון יהיה:  $\frac{3n}{4}$ .

נוסחאות הרבעונים יהיו:

$$Q_1 = L_0 + \frac{\frac{n}{4} - F(x_{m-1})}{f(x_m)} \cdot (L_1 - L_0)$$

$$Q_3 = L_0 + \frac{\frac{3n}{4} - F(x_{m-1})}{f(x_m)} \cdot (L_1 - L_0)$$

נציב:

$$Q_1 = 0.5 + \frac{\frac{200}{4} - 0}{56} \cdot 4 = 4.07 \text{ שניות}$$

$$Q_3 = 9.5 + \frac{\frac{3 \cdot 200}{4} - 106}{48} \cdot 2 = 11.33 \text{ שניות}$$

שלב ב:

$$IQR = Q_3 - Q_1 = 11.33 - 4.07 = 7.26 \text{ שניות}$$

נחסר את הרבעונים:

## שאלות:

(1) להלן התפלגות המשקל של קבוצה מסוימת בק"ג:

משקל	מספר מקרים
40-45	10
45-50	20
50-60	30
60-65	20
65-70	10

מצאו את הטווח הבין-רבעוני.

(2) להלן היסטוגרמה המתארת את התפלגות הגבהים בס"מ של קבוצה מסוימת:



מצאו את הטווח הבין-רבעוני.

## תשובות סופיות:

(1) 13.75 ק"ג.

(2) 13.33 ק"ג.

# מבוא לסטטיסטיקה

פרק 8 - סטטיסטיקה תיאורית-ממוצע משוקלל ושונות מצורפת

תוכן העניינים

1. כללי ..... 35

## סטטיסטיקה תיאורית – ממוצע משוקלל ושונות מצורפת:

### רקע:

מדובר על מצב שבו ישנן כמה קבוצות שנרצה לאחד לקבוצה אחת. מתעניינים בממוצע והשונות של הקבוצה הגדולה המתקבלת מאיחוד הקבוצות הקטנות.

$n_j$  - מס' התצפיות בקבוצת ה- $j$ .

$j$  - אינדקס של הקבוצה.

$N$  - מס' התצפיות בכל הקבוצות יחד (סכום כל ה- $n_j$ ).

$\bar{x}_j$  - הממוצע בקבוצה ה- $j$ .

$S_j^2$  - השונות בקבוצה ה- $j$ .

הנוסחאות לממוצע משוקלל ושונות מצורפת:

$$\bar{x} = \frac{\sum_{j=1}^k \bar{x}_j n_j}{N}; \quad N = \sum_{j=1}^k n_j; \quad S_c^2 = \frac{\sum_{j=1}^k n_j s_j^2}{N} + \frac{\sum_{j=1}^k n_j (\bar{x}_j - \bar{x})^2}{N}$$

### דוגמה (פתרון בהקלטה):

בחברה שני אגפים: אגף א' מונה עשרים עובדים, השכר הממוצע שם הוא 6,000 ₪ וסטיית התקן היא 2,000 ₪. באגף ב' עשרה עובדים, השכר הממוצע הוא 12,000 ₪ וסטיית התקן היא 3,000 ₪.

מהו השכר הממוצע ומהי סטיית התקן של שכר העובדים בחברה?

## שאלות:

1) להלן נתונים לגבי ציונים במבחן באנגלית ב-3 כיתות מתוך שכבה י' בתיכון:

כיתה	ממוצע	מס' תלמידים	סטיית תקן
1	76	40	12
2	68	20	15
3	82	30	10

א. חשבו את הממוצע המשוקלל בשכבה.

ב. חשבו את השונות המצורפת בשכבה.

2) נתונות שתי קבוצות: בקבוצה I פי שתיים תצפיות מאשר בקבוצה II.

הממוצע בשתי הקבוצות הוא 70. השונות בקבוצה I היא 100.

השונות בקבוצה II היא 400.

א. מצאו את הממוצע של התצפיות לאחר שאוחדו שתי הקבוצות לקבוצה אחת.

ב. מצאו את סטיית התקן של התצפיות לאחר שאוחדו שתי הקבוצות לקבוצה אחת.

## תשובות סופיות:

1) א. 76.22      ב. 173.5

2) א. 70      ב. 14.14

# מבוא לסטטיסטיקה

פרק 9 - סטטיסטיקה תיאורית- מדדי מיקום יחסי-ציון תקן

תוכן העניינים

1. כללי ..... 37

## סטטיסטיקה תיאורית – מדדי מיקום יחסי – ציון תקן:

### רקע:

המטרה למדוד איך תצפית ממוקמת ביחס לשאר התצפיות בהתפלגות.

### ציון תקן:

הנוסחה לציון תקן של תצפית היא:  $Z = \frac{X - \bar{X}}{S}$ .

- ציון התקן נותן כמה סטיות תקן סוטה התצפית מהממוצע. כלומר, ציון התקן מעיד על כמה סטיות תקן התצפית מעל או מתחת לממוצע:
- ציון תקן חיובי אומר שהתצפית מעל הממוצע.
  - ציון תקן שלילי אומר שהתצפית מתחת לממוצע.
  - ציון תקן אפס אומר שהתצפית בדיוק בממוצע.

### דוגמה (פתרון בהקלטה):

במקום עבודה מסוים, ממוצע המשכורות הוא 8 אלף ₪, עם סטית תקן של אלפיים ₪. באותו מקום עבודה ההשכלה הממוצעת של העובדים הנה 14 שנים, עם סטית תקן של 1.5 שנים. ערן מרוויח במקום עבודה זה 11 אלף ₪ והשכלתו 16 שנים. מה ערן יותר, באופן יחסי, משכיל או משתכר?

## שאלות:

- 1) תלמידי כיתה ח' ניגשו למבחן בלשון ולמבחן במתמטיקה. להלן התוצאות שהתקבלו:

המקצוע	ממוצע	סטיית תקן
לשון	74	12
מתמטיקה	80	16

עודד קיבל: 68 בלשון ו-70 במתמטיקה.

- א. באיזה מקצוע עודד טוב יותר באופן יחסי לשכבה שלו?  
 ב. איזה ציון עודד צריך לקבל במתמטיקה כדי שיהיה שקול לציונו בלשון?

- 2) במפעל לייצור מצברים לרכב בדקו במשך 40 ימים את התפוקה היומית (מספר מצברים במאות) ואת מספר הפועלים שעבדו באותו היום. להלן טבלה המסכמת את המידע שנאסף על שני המשתנים:

מספר פועלים	תפוקה	ממוצע
15	48	
2	10	סטיית תקן

- באחד הימים מתוך כלל הימים שנבדקו התפוקה הייתה 50 מאות מצברים ובאותו היום עבדו 13 פועלים.  
 מה יותר חריג באותו היום, יחסית לשאר הימים שנבדקו: נתוני התפוקה או כמות הפועלים?  
 א. התפוקה.  
 ב. כמות הפועלים.  
 ג. חריגים באותה מידה.  
 ד. חסרים נתונים כדי לדעת זאת.

- 3) הגובה הממוצע של המתגייסים לצבא הוא 175 סנטימטר עם סטיית תקן של 10 סנטימטר. המשקל הממוצע הוא 66 ק"ג עם סטיית תקן של 8 ק"ג. ערך התגייס כשגובהו 180 ס"מ ומשקלו 59 ק"ג.  
 א. במה ערך חריג יותר ביחס לשאר המתגייסים, גובהו או משקלו?  
 ב. כמה ערך אמור לשקול כדי שמשקלו יהיה שקול לגובהו?

## תשובות סופיות:

- 1) א. לשון. ב. 72.  
 2) ב'.  
 3) א. משקל. ב. 70.

# מבוא לסטטיסטיקה

פרק 10 - סטטיסטיקה תיאורית-מדדי מיקום יחסי-אחוזונים במחלקות

תוכן העניינים

1. כללי ..... 39

## סטטיסטיקה תיאורית – מדדי מיקום יחסי – אחוזונים במחלקות:

### רקע:

האחוזון (המאון) ה- $p$  הוא הערך בנתונים המחלק את הנתונים בצורה כזאת שעד אליו יש  $p\%$  מהנתונים. מסמנים את האחוזון ה- $p$  ב- $X_p$ . למשל, המאון ה-25 הוא האחוזון ה-25 או הרבעון התחתון: ערך שרבע מהתצפיות קטנות ממנו והשאר גבוהות ממנו. מסומן:  $X_{0.25}$ .

### מציאת מאון במחלקות:

שלב א: נמצא את המחלקה הרלבנטית שמיקומה יהיה:  $\frac{np}{100}$ .

שלב ב: נציב בנוסחה הבאה:  $x_p = L_0 + \frac{\frac{n \cdot p}{100} - F(x_{m-1})}{f(x_m)} \cdot (L_1 - L_0)$ , את המשתנים:

$F(x_{m-1})$  - שכיחות מצטברת של מחלקה אחת לפני המחלקה הרלבנטית.

$f(x_m)$  - השכיחות של המחלקה הרלבנטית.

$L_0$  - גבול התחתון של המחלקה.

$L_1$  - גבול העליון של המחלקה.

אם נרצה לחלץ את אחוז התצפיות שמתחת לערך מסוים נשתמש בנוסחה

$$P_x = \left[ \frac{(x - L_0)}{(L_1 - L_0)} \cdot f(x_m) + F(x_{m-1}) \right] \cdot \frac{100}{n}$$

הבאה:

### דוגמה (פתרון בהקלטה):

להלן התפלגות השכר של עובדים בחברה מסוימת:

שכר ב-₪	
4000-6000	140
6000-10000	128
10000-15000	60
15000-20000	54
20000-40000	18

א. מצאו את המאון ה-40.

ב. מהו אחוז העובדים שמשתכרים מתחת ל-5,000 ₪?

## שאלות:

(1) להלן התפלגות השכר (באלפי שקלים) בחברה:

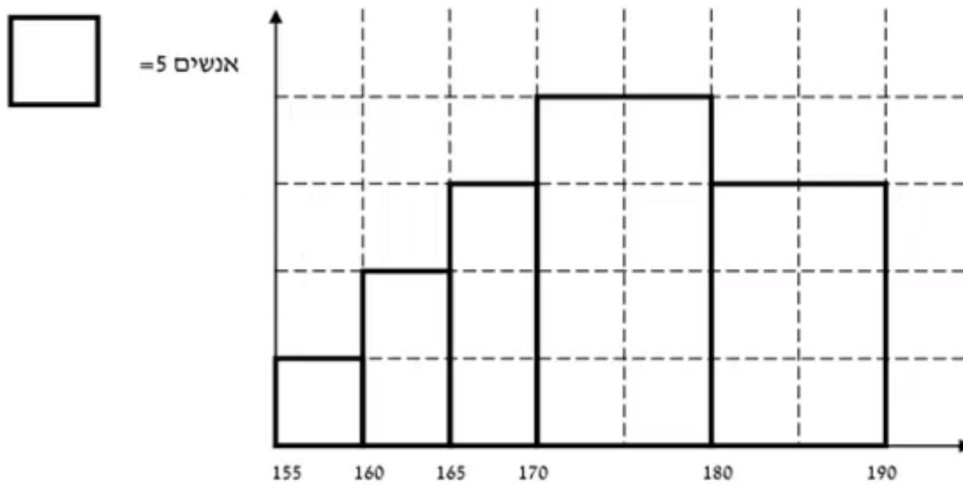
שכחות מצטברת	שכר - $X$
48	6-10
100	10-15
120	15-20
132	20-30
136	30-60

- א. חשבו את המאון ה-60.  
 ב. מהו העשירון העליון?  
 ג. 20% מהמשכורות הגבוהות ביותר הן משכורות של הבכירים, מהי המשכורת המינימאלית לבכיר?  
 ד. מה אחוז האנשים שמשכרים מתחת ל-7,000 ₪?  
 ה. איזה אחוז מהעובדים משתכרים מעל ל-25,000 ₪?  
 ו. איזה אחוז מהעובדים משתכרים בין 7,000 ₪ ל-25,000 ₪?

(2) למבחן ניגשו 400 נבחנים. נתון שהעשירון התחתון הוא הציון 60. הרבעון העליון הוא הציון 80. כמו כן ההתפלגות של הציונים היא סימטרית. מלאו את השכיחויות החסרות.

ציון - $X$	$f(x)$
50-60	
60-70	
70-80	
80-90	
90-100	

3) להלן היסטוגרמה המתארת את התפלגות הגבהים בס"מ של קבוצה מסוימת:



חשבו:

- העשירון התחתון.
- האחוזון ה-30.
- הגובה ש-20% מהתצפית גדולות ממנו.
- את אחוז התצפיות מתחת לגובה 158 ס"מ.
- את אחוז התצפיות מעל לגובה 185 ס"מ.
- את אחוז התצפיות בין גובה 170 ס"מ ל-185 ס"מ.

תשובות סופיות:

- א. 13.23    ב. 22    ג. 17.2    ד. 8.82%    ה. 7.36%
  - א. 83.82%
- להלן טבלה:

ציון- $X$	$f(x)$
50-60	40
60-70	60
70-80	200
80-90	60
90-100	40

- א. 162.5    ב. 170    ג. 183.33    ד. 3%    ה. 15%
- א. 55%

# מבוא לסטטיסטיקה

פרק 11 - סטטיסטיקה תיאורית - טרנספורמציה לינארית

תוכן העניינים

1. כללי ..... 42

## סטטיסטיקה תיאורית – טרנספורמציה לינארית:

### רקע:

מצב שבו מבצעים שינוי מסוג הוספה (או החסרה) של קבוע, והכפלה (או חילוק) של קבוע, לכל התצפיות:  $y = a \cdot x + b$ . כך יושפעו המדדים השונים:

$$MR_y = a \cdot MR + b$$

$$MO_y = a \cdot MO + b$$

$$\bar{y} = a \cdot \bar{x} + b$$

$$Md_y = a \cdot Md_x + b$$

**מדדי המרכז:**

$$R_y = |a| R_x$$

$$S_y = |a| S_x$$

$$S_y^2 = a^2 S_x^2$$

**מדדי הפיזור:**

$$Y_p = a \cdot X_p + b$$

$$Z_y = \frac{a}{|a|} Z_x$$

**מדדי המיקום היחסי:**

### שלבי העבודה:

1. נזהה שמדובר בטרנספורמציה לינארית (שינוי קבוע לכל התצפיות).
2. נרשום את כלל הטרנספורמציה לפי נתוני השאלה.
3. נפשט את הכלל ונזהה את ערכי  $a$  ו- $b$ .
4. נציב בנוסחאות שלעיל בהתאם למדדים שנשאלים.

### דוגמה (פתרון בהקלטה):

השכר הממוצע של עובדים הינו 9000 ₪ וטווח 6000 ₪. חשבו את המדדים הללו לאחר שהעלו את כל המשכורות ב-10% ואחר כך קנסו אותם ב-100 ₪.

## שאלות:

- (1) עבור סדרת נתונים התקבל:  $\bar{x} = 80, S = 15, MO = 70$ .  
הוחלט להכפיל את כל התצפיות ב-4 ולהחסיר מהתוצאה 5.  
חשבו את המדדים הללו לאחר השינוי.
- (2) בחברה מסוימת השכר הממוצע הוא 40 ₪ לשעה עם סטיית תקן של 5 ₪ לשעה.  
הוחלט להעלות את כל המשכורות ב-10%, אך זה לא סיפק את העובדים ולכן הם קיבלו לאחר מכן תוספת של 2 ₪ לשעה.  
מה הממוצע ומהי השונות של השכר לשעה לאחר כל השינויים.
- (3) במבחן מסוים הציון החציוני היה 73, טווח הציונים היה 40 נקודות והעשירון העליון היה הציון 87. כיוון שהציונים בבחינה היו נמוכים, המורה החליט לתת פקטור של 4 נקי לכל התלמידים.  
חשבו את המדדים לאחר הפקטור.
- (4) דגמו מקו ייצור 50 קופסאות של גפרורים. בדקו בכל קופסא בה יש 40 גפרורים את כמות הגפרורים הפגומים. התקבל שבממוצע יש 3 גפרורים פגומים בקופסא, עם סטיית תקן של 1.5 גפרורים.  
מה יהיה הממוצע ומה תהיה סטיית התקן של מספר התקינים בקופסא?
- (5) חברת בזק הציעה את ההצעה הבאה: שלושים שקלים דמי מנוי חודשיים קבועים וכן 10 אגורות לכל דקה של שיחה יוצאת. אדם בדק במשך שנה את דקות השיחות היוצאות שלו, וקיבל שבממוצע חודשי יש לו 600 דקות שיחות יוצאות עם שונות של 2500 דקות רבועות, כמו כן בחודש ינואר ציון התקן היה 2.  
חשבו את המדדים הללו עבור חשבון הטלפון החודשי של אותו אדם בשקלים אם היה משתמש בחבילה המוצעת לו על ידי בזק.
- (6) הוכיחו שאם כל התצפיות בהתפלגות עברו טרנספורמציה לינארית:  $Y_i = a \cdot X_i + b$ , אזי הממוצע והשונות של כלל התצפיות לאחר הטרנספורמציה יהיו בהתאמה:  
$$\bar{y} = a \cdot \bar{x} + b, S_y^2 = a^2 S_x^2$$

**תשובות סופיות:**

- (1) ממוצע: 315, סטיית תקן: 60, שכיח: 275.
- (2) ממוצע: 46, שונות: 30.25.
- (3) טווח: 40, חציון: 77, עשירון עליון: 91.
- (4) ממוצע: 37, סטיית תקן: 1.5.
- (5) ממוצע: 90, שונות: 25, ציון תקן: 2.
- (6)  $a^2 \cdot S_x^2$

# מבוא לסטטיסטיקה

פרק 12 - סטטיסטיקה תיאורית - שאלות מסכמות

תוכן העניינים

1. כללי ..... 45

## סטטיסטיקה תיאורית – שאלות מסכמות:

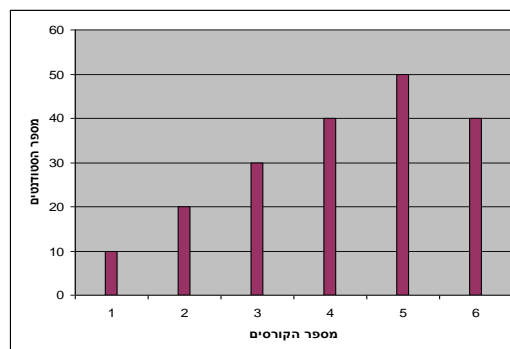
### שאלות:

(1) בדקו עבור 5 תלמידים את המשקל שלהם:

מספר תלמיד	משקל בק"ג
1	58
2	62
3	48
4	34
5	58

- מהו המשתנה הנחקר? בדיד או רציף?
- מה המשקל החציוני, הממוצע והשכיח?
- מה הטווח וסטיית התקן של המשקל?
- לאותם תלמידים חישובו גם את הגובה בס"מ וקיבלו גובה ממוצע של 168 וסטיית תקן 6. במה תלמיד מספר 3, שגובהו 162, יותר חריג – במשקל או בגובה?
- הוסיפו עוד תלמיד השוקל 52 ק"ג בדיוק. הסבירו ללא חישוב כיצד הדבר ישפיע על הממוצע וסטיית התקן (יגדילו, יקטין או לא ישנה).

(2) בפקולטה להנדסה אספה המזכירות נתונים לגבי מס' הקורסים שכל סטודנט סיים בשנה הראשונה ללימודיו בשנת 2008. להלן התוצאות שהתקבלו:



- מה המשתנה הנחקר? בדיד או רציף?
- מהי צורת ההתפלגות?
- תארו את הנתונים בטבלת שכיחויות.
- חשבו את השכיח, החציון והטווח.

3) להלן התפלגות הציונים בבחינה בלשון שנעשתה עבור תלמידי כיתות ד'.

במחקר השתתפו 150 תלמידים. ממוצע הציונים שהתקבל:  $\bar{X} = 7\frac{1}{15}$ .

מספר התלמידים	ציון
12	4
16	5
	6
38	7
	8
14	9
10	10

- השלימו את השכיחויות החסרות בטבלה.
- חשבו את הציון החציוני, השכיח.
- חשב שונות וסטיית תקן להתפלגות הציונים.

4) חברה סלולארית דגמה 200 אנשים. עבור כל אדם נבדקה מידת שביעות הרצון של הלקוח מהחברה (1 - שביעות רצון נמוכה ו-5 - שביעות רצון גבוהה). להלן ההתפלגות שהתקבלה:

מספר האנשים	שביעות רצון
40	1
60	2
50	3
30	4
20	5

- מה אחוז האנשים עם רמת שביעות רצון נמוכה?
- מה המשתנה הנחקר ומאיזה סוג הוא?
- מהי הדרך הגרפית המתאימה ביותר לתיאור הנתונים?
  - היסטוגרמה.
  - דיאגרמת מקלות.
  - דיאגרמת עוגה.
- חשבו את המדדים הבאים:
  - טווח.
  - שכיח.
  - חציון.

5) להלן התפלגות מספר שעות העבודה לשבוע של העובדים (כ-200) בחברת "סטאר":

מספר שעות עבודה	שכיחות יחסית (פרופורציה)	שכיחות
10-20	15%	
20-30	20%	
30-40	30%	
40-50	20%	
50-60		

- א. השלימו את הטבלה.
- ב. חשבו את החציון, השכיח והממוצע של התפלגות מס' שעות העבודה בחברה.
- ג. מה סטיית התקן של מספר שעות העבודה?
- ד. מה העשירון העליון של ההתפלגות?
- ה. איזה אחוז מהעובדים עובדים מעל 45 שעות בשבוע?
- ו. מה ציון התקן של רינה, שעובדת 30 שעות בשבוע?
- ז. כיצד ישתנה החציון, הממוצע וסטיית התקן אם מספר שעות העבודה המינימאלי אינו 10 אלא 15? הסבירו.

6) חברה סלולארית דגמה 200 אנשים. עבור כל אדם נבדק מס' המסרונים ששלח במשך חודש. להלן ההתפלגות שהתקבלה:

מספר המסרונים	מספר האנשים
0-50	40
50-100	60
100-150	50
150-250	30
250-ומעלה	20

- א. מה אחוז האנשים ששלחו פחות מ-80 מסרונים בחודש?
- ב. מה אחוז האנשים ששלחו בין 50 ל-120 מסרונים?
- ג. הוחלט להעניק מתנה עבור  $\frac{1}{4}$  מהלקוחות שמשלמים במספר הרב ביותר של מסרונים בחודש. החל מאיזה כמות של מסרונים תחולק המתנה?
- ד. ציינו איזה מדד ניתן לחשב ואיזה לא ניתן. אם ניתן, חשבו:
- ממוצע.
  - שכיח.
  - חציון.
  - שונות.

7) נתנו לקבוצת ילדים לבצע משימה מסוימת ובדקו את התפלגות זמן ביצוע המשימה בדקות. להלן ההתפלגות שהתקבלה:

מספר הילדים	זמן בדקות
20	0.5-3.5
18	3.5-9.5
14	9.5-19.5
8	19.5-29.5

- שרטטו היסטוגרמה לתיאור התפלגות זמן ביצוע המשימה.
- מתוך ההיסטוגרמה שבנית בסעיף א', מהי צורת ההתפלגות?
- חשבו את השכיח והחציון של ההתפלגות.
- הסבירו, ללא חישוב, האם הזמן הממוצע לביצוע המשימה, קטן או גדול או שווה ביחס לשכיח ולחציון.

8) התפלגות ציוני מבחן אינטליגנציה היא סימטרית. נתון שהעשירון העליון הוא 130, הרבעון התחתון הוא 90, ושלמבחן נגשו 500 מועמדים.

מספר הנבחנים	הציון
	50-70
	70-90
	90-100
	100-110
	110-130
	130-150

- השלימו את הטבלה.
- מהו הממוצע והחציון של ההתפלגות?
- מהו הציון ש-40% מהתלמידים קיבלו מעליו? באיזה אחוזון מדובר?
- הוחלט להעלות את כל הציונים ב-10 נקודות. כיצד הדבר ישפיע על הממוצע וסטיית התקן של הציונים?

- 9) להלן מספר טענות, עבור כל טענה ציינו אם היא נכונה או לא נכונה ונמקו.
- א. בסדרה שבה כל התצפיות שוות זו לזו השונות הינה 0.
  - ב. ציון התקן של החציון תמיד יהיה 0.
  - ג. ציון התקן של האחוזון ה-70 בהתפלגות אסימטרית ימנית (חיובית) תמיד יהיה חיובי.
  - ד. אם נוסיף תצפיות לסדרה של תצפיות, הדבר בהכרח יגדיל את הממוצע של הסדרה.
  - ה. בסדרה החציון הינו 80. הוספו שתי תצפיות אחת 79 ואחת 100 לכן החציון יגדל.
  - ו. אם נוסיף את הערך 4 לכל התצפיות אז סטיית התקן לא תשתנה.
  - ז. אם נחלק את כל התצפיות בהתפלגות ב-2 אז השונות תקטן פי 2.
  - ח. אם נגדיל את ממוצע המשכורות של עובדים בחברה אז גם השונות תגדל.

## תשובות סופיות:

- (1) א. המשתנה הנחקר: משקל תלמיד בק"ג, משתנה כמותי רציף.  
 ב.  $\bar{X} = 52$ ,  $Md = X_{\frac{n+1}{2}} = X_3 = 58$ , שכיח: 58.  
 ג.  $R = 28$ ,  $S = 10.12$ .  
 ד. הוא חריג יותר בגובה כי שם ציון התקן בערך מוחלט יותר גבוה.  
 ה. הממוצע לא ישתנה אך סטיית התקן תקטן.
- (2) א. מספר הקורסים, בדיד. ב. התפלגות אסימטרית שמאלית.  
 ג. להלן טבלה: ד. שכיח: 5, טווח: 5.

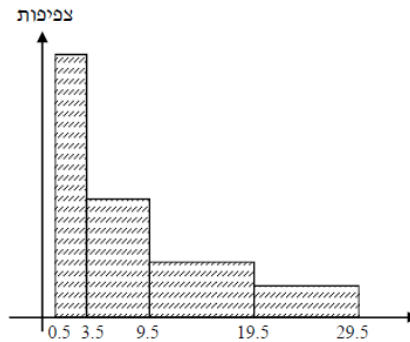
$f(x)$	$x$
10	1
20	2
30	3
40	4
50	5
40	6
190	סה"כ

- (3) א. 20 תלמידים קיבלו ציון 6 ו-40 תלמידים קיבלו ציון 8.  
 ב. חציון: 7, שכיח: 8. ג. שונות: 2.533, סטיית תקן: 1.592.
- (4) א. 20%. ב. שביעות רצון (סדר).  
 ג. ii. ד. טווח: 4, שכיח: 2, חציון: 2.
- (5) א. להלן טבלה: ב. חציון: 35, שכיח: 35, ממוצע: 35.

שכיחות	שכיחות יחסית (פרופורציה)	מספר שעות עבודה
30	15%	10-20
40	20%	20-30
60	30%	30-40
40	20%	40-50
30	15%	50-60

- ג. סטיית תקן: 12.65. ד. 53.333.  
 ה. 25%. ו. -0.395.  
 ז. חציון לא ישתנה, ממוצע יגדל, סטיית תקן תקטן.
- (6) א. 38%. ב. 40%. ג. 150. ד. חציון: 100.

7) א. שרטוט: ב. ההתפלגות היא א-סימטרית ימנית.



ג. שכיח: 2, חציון: 6.83.

ד. בהתפלגות א-סימטרית ימנית מתקיים:  $Mo < Md < \bar{X} < MR$ .

8) א. ראו טבלה:

מספר הנבחים	ציון
50	50-70
75	70-90
125	90-100
125	100-110
75	110-130
50	130-150

ב. 100. ג. 104.

ד. הממוצע יעלה ב-10 נקודות, אך סטיית התקן לא תשתנה.

9) א. נכון. ב. לא נכון. ג. לא נכון. ד. לא נכון. ה. לא נכון.  
ו. נכון. ז. לא נכון. ח. לא נכון.

# מבוא לסטטיסטיקה

פרק 13 - התפלגויות רציפות מיוחדות - התפלגות נורמלית

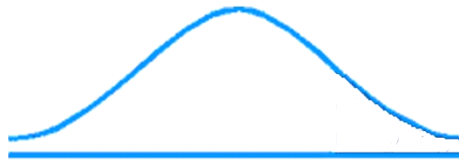
תוכן העניינים

52 ..... 1. כללי

## התפלגויות רציפות מיוחדות – התפלגות נורמלית:

### רקע:

התפלגות נורמלית הינה התפלגות של משתנה רציף. ישנם משתנים רציפים מסוימים שנהוג להתייחס אליהם כנורמליים כגון: זמן ייצור, משקל תינוק ביום היוולדו ועוד. פונקציית הצפיפות של ההתפלגות הנורמלית נראית כמו פעמון:



לעקומה זו קוראים גם עקומת גאוס ועקומה אחת נבדלת מהשנייה באמצעות הממוצע וסטיית התקן שלה.

אלה הם הפרמטרים שמאפיינים את ההתפלגות:  $X \sim N(\mu, \sigma^2)$ .

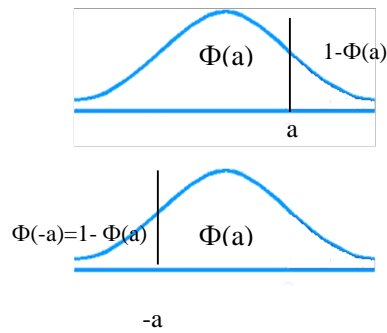
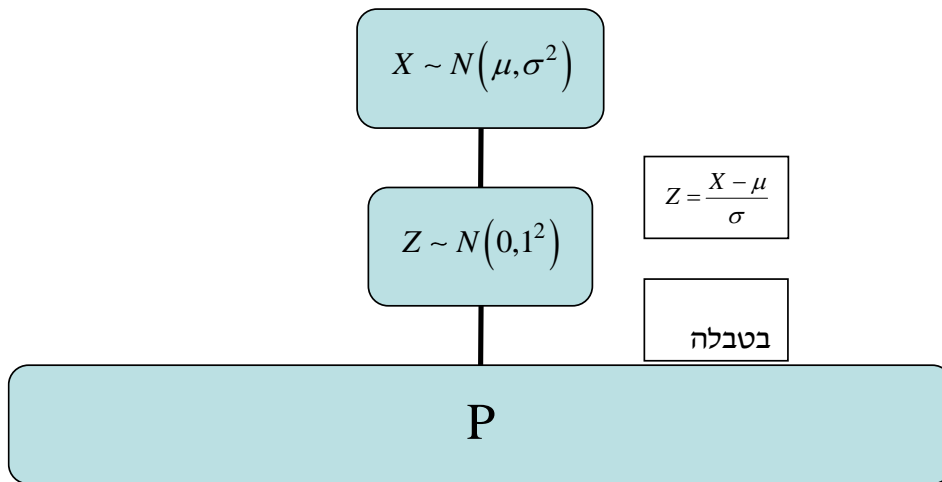
$$\text{נוסחת פונקציית הצפיפות: } f(x) = \frac{1}{\sqrt{2\pi\sigma^2}} e^{-\frac{(x-\mu)^2}{2\sigma^2}}$$

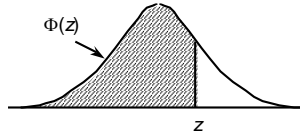
כדי לחשב הסתברויות בהתפלגות נורמלית יש לחשב את השטחים הרלוונטיים שמתחת לעקומה. כדי לחשב שטחים אלה נמיר כל התפלגות נורמלית להתפלגות נורמלית סטנדרטית על ידי תהליך הנקרא תקנון. התפלגות נורמלית סטנדרטית היא התפלגות נורמלית שהממוצע שלה הוא אפס וסטיית התקן היא אחת, והיא תסומן באות  $Z$ :  $Z \sim N(0, 1^2)$ .

$$\text{תהליך התקנון מבוצע על ידי הנוסחה הבאה: } Z = \frac{X - \mu}{\sigma}$$

אחרי תקנון מקבלים ערך הנקרא ציון תקן. ציון התקן משמעו בכמה סטיות תקן הערך סוטה מהממוצע.

לאחר חישוב ציון התקן של ערך מסוים נעזרים בטבלה של ההתפלגות הנורמלית הסטנדרטית לחישוב השטח הרצוי, ובאופן כללי נתאר את הסכמה הבאה:



טבלת ההתפלגות המצטברת הנורמלית סטנדרטית – ערכי  $\Phi(z)$ :

z	.00	.01	.02	.03	.04	.05	.06	.07	.08	.09
0.0	.5000	.5040	.5080	.5120	.5160	.5199	.5239	.5279	.5319	.5359
0.1	.5398	.5438	.5478	.5517	.5557	.5596	.5636	.5675	.5714	.5753
0.2	.5793	.5832	.5871	.5910	.5948	.5987	.6026	.6064	.6103	.6141
0.3	.6179	.6217	.6255	.6293	.6331	.6368	.6406	.6443	.6480	.6517
0.4	.6554	.6591	.6628	.6664	.6700	.6736	.6772	.6808	.6844	.6879
0.5	.6915	.6950	.6985	.7019	.7054	.7088	.7123	.7157	.7190	.7224
0.6	.7257	.7291	.7324	.7357	.7389	.7422	.7454	.7486	.7517	.7549
0.7	.7580	.7611	.7642	.7673	.7704	.7734	.7764	.7794	.7823	.7852
0.8	.7881	.7910	.7939	.7967	.7995	.8023	.8051	.8078	.8106	.8133
0.9	.8159	.8186	.8212	.8238	.8264	.8289	.8315	.8340	.8365	.8389
1.0	.8413	.8438	.8461	.8485	.8508	.8531	.8554	.8577	.8599	.8621
1.1	.8643	.8665	.8686	.8708	.8729	.8749	.8770	.8790	.8810	.8830
1.2	.8849	.8869	.8888	.8907	.8925	.8944	.8962	.8980	.8997	.9015
1.3	.9032	.9049	.9066	.9082	.9099	.9115	.9131	.9147	.9162	.9177
1.4	.9192	.9207	.9222	.9236	.9251	.9265	.9279	.9292	.9306	.9319
1.5	.9332	.9345	.9357	.9370	.9382	.9394	.9406	.9418	.9429	.9441
1.6	.9452	.9463	.9474	.9484	.9495	.9505	.9515	.9525	.9535	.9545
1.7	.9554	.9564	.9573	.9582	.9591	.9599	.9608	.9616	.9625	.9633
1.8	.9641	.9649	.9656	.9664	.9671	.9678	.9686	.9693	.9699	.9706
1.9	.9713	.9719	.9726	.9732	.9738	.9744	.9750	.9756	.9761	.9767
2.0	.9772	.9778	.9783	.9788	.9793	.9798	.9803	.9808	.9812	.9817
2.1	.9821	.9826	.9830	.9834	.9838	.9842	.9846	.9850	.9854	.9857
2.2	.9861	.9864	.9868	.9871	.9875	.9878	.9881	.9884	.9887	.9890
2.3	.9893	.9896	.9898	.9901	.9904	.9906	.9909	.9911	.9913	.9916
2.4	.9918	.9920	.9922	.9925	.9927	.9929	.9931	.9932	.9934	.9936
2.5	.9938	.9940	.9941	.9943	.9945	.9946	.9948	.9949	.9951	.9952
2.6	.9953	.9955	.9956	.9957	.9959	.9960	.9961	.9962	.9963	.9964
2.7	.9965	.9966	.9967	.9968	.9969	.9970	.9971	.9972	.9973	.9974
2.8	.9974	.9975	.9976	.9977	.9977	.9978	.9979	.9979	.9980	.9981
2.9	.9981	.9982	.9982	.9983	.9984	.9984	.9985	.9985	.9986	.9986
3.0	.9987	.9987	.9987	.9988	.9988	.9989	.9989	.9989	.9990	.9990
3.1	.9990	.9991	.9991	.9991	.9992	.9992	.9992	.9992	.9993	.9993
3.2	.9993	.9993	.9994	.9994	.9994	.9994	.9994	.9995	.9995	.9995
3.3	.9995	.9995	.9995	.9996	.9996	.9996	.9996	.9996	.9996	.9997
3.4	.9997	.9997	.9997	.9997	.9997	.9997	.9997	.9997	.9997	.9998

z	1.282	1.645	1.960	2.326	2.576	3.090	3.291	3.891	4.417
$\Phi(z)$	0.90	0.95	0.975	0.99	0.995	0.999	0.9995	0.99995	0.999995

דוגמה (הפתרון בהקלטה):

משקל חפיסות שוקולד המיוצרות בחברה מתפלג נורמלית עם ממוצע 100 גרם בסטיית תקן של 8 גרם.

- (1) מה אחוז חפיסות השוקולד ששוקלות מתחת ל-110 גרם?
- (2) מה אחוז חפיסות השוקולד ששוקלות מעל 110 גרם?
- (3) מה אחוז חפיסות השוקולד ששוקלות מתחת ל 92 גרם?
- (4) מהו המשקל ש-90% מהחפיסות בקו הייצור שוקלים פחות מהם?

## שאלות:

- (1) הגובה של אנשים באוכלוסייה מסוימת מתפלג נורמלית עם ממוצע של 170 ס"מ וסטית תקן של 10 ס"מ.
- מה אחוז האנשים שגובהם מתחת ל-182.4 ס"מ?
  - מה אחוז האנשים שגובהם מעל 190 ס"מ?
  - מה אחוז האנשים שגובהם בדיוק 173.6 ס"מ?
  - מה אחוז האנשים שגובהם מתחת ל-170 ס"מ?
  - מה אחוז האנשים שגובהם לכל היותר 170 ס"מ?
- (2) נתון שהזמן שלוקח לתרופה מסוימת להשפיע מתפלג נורמלית עם ממוצע של 30 דקות ושונות של 9 דקות רבועות.
- מהי פרופורציית המקרים בהן התרופה תעזור אחרי יותר משעה?
  - מה אחוז מהמקרים שבהן התרופה תעזור בין 35 ל-37 דקות?
  - מה הסיכוי שהתרופה תעזור בדיוק תוך 36 דקות?
  - מה שיעור המקרים שבהן ההשפעה של התרופה תסטה מ-30 דקות בפחות מ-3 דקות?
- (3) המשקל של אנשים באוכלוסייה מסוימת מתפלג נורמלית עם ממוצע של 60 ק"ג וסטית תקן של 8 ק"ג.
- מה אחוז האנשים שמשקלם נמוך מ-55 ק"ג?
  - מהי פרופורציית האנשים באוכלוסייה שמשקלם לפחות 50 ק"ג?
  - מהי השכיחות היחסית של האנשים באוכלוסייה שמשקלם בין 60 ל-70 ק"ג?
  - לאיזה חלק מהאוכלוסייה משקל הסוטה מהמשקל הממוצע בלא יותר מ-4 ק"ג?
  - מה הסיכוי שאדם אקראי ישקול מתחת ל-140 ק"ג?
- (4) משקל תינוקות ביום היוולדם מתפלג נורמלית עם ממוצע של 3300 גרם וסטית תקן 400 גרם.
- מצאו את העשירון העליון.
  - מצאו את האחוזון ה-95.
  - מצאו את העשירון התחתון.

- 5) ציוני מבחן אינטליגנציה מתפלגים נורמלית עם ממוצע 100 ושונויות 225.
- מה העשירון העליון של הציונים במבחן האינטליגנציה?
  - מה העשירון התחתון של ההתפלגות?
  - מהו הציון ש-20% מהנבחנים מקבלים מעליו?
  - מהו האחוזון ה-20?
  - מהו הציון ש-5% מהנבחנים מקבלים מתחתיו?
- 6) נפח משקה בבקבוק מתפלג נורמלית עם סטיית תקן של 20 מ"ל, ונתון ש-33% מהבקבוקים בעלי נפח שעולה על 508.8 מ"ל.
- מה ממוצע נפח משקה בבקבוק?
  - 5% מהבקבוקים המיוצרים עם הנפח הגבוה ביותר נשלחים לבדיקה, החל מאיזה נפח שולחים בקבוק לבדיקה?
  - 1% מהבקבוקים עם הנפח הקטן ביותר נתרמים לצדקה, מהו הנפח המקסימלי לצדקה?
- 7) אורך חיים של מכשיר מתפלג נורמלית. ידוע שמחצית מהמכשירים חיים פחות מ-500 שעות, כמו כן ידוע ש-67% מהמכשירים חיים פחות מ-544 שעות.
- מהו ממוצע אורך חיי מכשיר?
  - מהי סטית בתקן של אורך חיי מכשיר?
  - מה הסיכוי שמכשיר אקראי יחיה פחות מ-460 שעות?
  - מהו המאיון העליון של אורח חיי מכשיר?
  - 1% מהמכשירים בעלי אורך החיים הקצר ביותר נשלח למעבדה לבדיקה מעמיקה. מהו אורך החיים המקסימלי לשליחת מכשיר למעבדה?
- 8) להלן שלוש התפלגויות נורמליות של שלוש קבוצות שונות ששורטטו באותה מערכת צירים. ההתפלגויות מוספרו כדי להבדיל ביניהן.
- לאיזו התפלגות הממוצע הגבוה ביותר?
  - במה מבין המדדים הבאים התפלגות 1 ו-2 זהות?
    - בעשירון העליון.
    - בממוצע.
    - בשונויות.
  - לאיזו התפלגות סטיית התקן הקטנה ביותר?
    - 1.
    - 2.
    - 3.
    - אין לדעת.



- 9) הזמן שלוקח לאדם להגיע לעבודתו מתפלג נורמלית עם ממוצע של 40 דקות וסטית תקן של 5 דקות.
- א. מה ההסתברות שמשך הנסיעה של האדם לעבודתו יהיה לפחות שלושת רבעי השעה?
- ב. אדם יצא לעבודתו בשעה 08:10 מביתו. הוא צריך להגיע לעבודתו בשעה 09:00. מה הסיכוי שיאחר לעבודתו?
- ג. אם ידוע שזמן נסיעתו לעבודה היה יותר משלושת רבעי השעה. מה ההסתברות שזמן הנסיעה הכולל יהיה פחות מ-50 דקות?
- ד. מה הסיכוי שבשבוע (חמישה ימי עבודה) בדיוק פעם אחת יהיה זמן הנסיעה לפחות שלושת רבעי השעה?

**תשובות סופיות:**

1	א. 89.25%	ב. 2.28%	ג. 0	ד. 50%	ה. 50%
2	א. 0%	ב. 3.76%	ג. 0%	ד. 68.26%	
3	א. 26.43%	ב. 89.44%	ג. 39.44%	ד. 0.383	
	ה. 100%				
4	א. 3812.8	ב. 3958	ג. 2787.2		
5	א. 119.2	ב. 80.8	ג. 112.6	ד. 87.4	ה. 75.3
6	א. 500	ב. 532.9	ג. 453.48		
7	א. 500	ב. 100	ג. 0.3446	ד. 733	
	ה. 267				
8	א. 3	ב. בממוצע.	ג. 1		
9	א. 0.1587	ב. 0.0228	ג. 0.8563	ד. 0.3975	

# מבוא לסטטיסטיקה

פרק 14 - הסקה סטטיסטית - הקדמה

תוכן העניינים

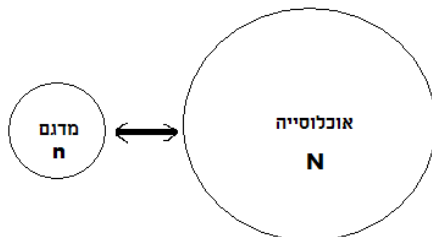
1. כללי ..... 59

## הסקה סטטיסטית – הקדמה:

### רקע:

#### אוכלוסייה:

קבוצה שאליה מפנים שאלה מחקרית. למשל, חברת תרופות שמעוניינת לפתח תרופה למחלת הסוכרת מתעניינת באוכלוסיית חולי הסוכרת בעולם.



#### מדגם:

חלק מתוך האוכלוסייה. למשל, אם נדגום באקראי 10 אנשים מתוך חולי הסוכרת אז זהו מדגם מתוך אוכלוסיית חולי הסוכרת.

במקרים רבים אין אפשרות לחקור את כל האוכלוסייה כיוון שאין גישה לכולה, היא גדולה מידי, או מוגבלים בזמן ובאמצעים טכניים ולכן מבצעים מדגם במטרה לבצע הסקה סטטיסטית מהמדגם לאוכלוסייה. הדגימה בקורס תהיה דגימה מקרית - הכוונה לדגימה שבה לכל תצפית באוכלוסייה יש את אותו סיכוי להיכלל במדגם.

#### סטטיסטי:

גודל המחושב על המדגם.

#### פרמטר:

גודל המתאר את האוכלוסייה.

### הסימונים לפרמטר וסטטיסטי הם שונים:

פרמטר (אוכלוסייה)	סטטיסטי (מדגם)	ממוצע
$\mu$	$\bar{X}$	
$P$	$\hat{p}$	פרופורציה (שכיחות יחסית)

פרמטר הוא גודל קבוע גם אם אנו לא יודעים אותו סטטיסטי הוא משתנה ממדגם למדגם ולכן יש לו התפלגות הנקראת התפלגות הדגימה.

### דוגמה (פתרון בהקלטה):

25% מאזרחי המדינה תומכים בהצעת החוק של חבר כנסת מסוים. הוחלט לדגום 200 אזרחים ומתוכם לבדוק מהו אחוז התומכים בהצעת החוק.

א. מי האוכלוסייה?

ב. מה המשתנה?

ג. מה הפרמטרים?

ד. מהו גודל המדגם?

ה. מהו הסטטיסטי שמתכננים להוציא מהמדגם?

ו. האם הפרמטר או הסטטיסטי הוא משתנה מקרי?

## שאלות:

- (1) מתוך כלל הסטודנטים במכללה שסיימו סטטיסטיקה א נדגמו שני סטודנטים. נתון שממוצע הציונים של כלל הסטודנטים היה 78 עם סטיית תקן של 15.
- מי האוכלוסייה?
  - מה המשתנה?
  - מהם הפרמטרים?
  - מהו גודל המדגם?
- (2) להלן התפלגות מספר מקלטי הטלוויזיה למשפחה בישוב "העוגן". נגדיר את  $X$  להיות מספר המקלטים של משפחה אקראית. מתכננים לדגום מאוכלוסייה זו 4 משפחות ולהתבונן בממוצע מספר מקלטי הטלוויזיה במדגם.
- מיהי האוכלוסייה ומהו המשתנה הנחקר?
  - מהו הסטטיסטי שיילקח מהמדגם ומה סימונו?

מספר משפחות	מספר מקלטים
50	0
250	1
350	2
300	3
50	4
סך הכול $N = 1000$	

- (3) נתון כי 20% מהשכירים במדינה הם אקדמאיים. נבחרו באקראי 10 שכירים באותה אוכלוסייה ומתכננים לפרסם את מספר האקדמאיים שנדגמו.
- מיהי האוכלוסייה?
  - מה המשתנה באוכלוסייה?
  - מהם הפרמטרים?
  - מהו הסטטיסטי?

## תשובות סופיות:

- (1) א. כלל הסטודנטים במכללה שסיימו סטטיסטיקה א. ב. ציון. ג. ממוצע: 78, סטיית תקן: 15. ד. 2.
- (2) א. האוכלוסייה: 1000 משפחות בישוב העוגן, המשתנה הנחקר: מס' מקלטים. ב.  $\bar{X}$  = ממוצע מדגם.
- (3) א. השכירים במדינה. ב. השכלה: אקדמאי, לא אקדמאי. ג. שיעור ההצלחות באוכלוסייה: 0.2. ג. מס' האקדמאים במדגם.

# מבוא לסטטיסטיקה

פרק 15 - התפלגות הדגימה ומשפט הגבול המרכזי

תוכן העניינים

1. התפלגות ממוצע המדגם ומשפט הגבול המרכזי..... 62

## התפלגות ממוצע המדגם ומשפט הגבול המרכזי:

### רקע:

בפרק זה נדון בהתפלגות של ממוצע המדגם:  $\bar{x} = \frac{\sum x_i}{n}$

מכיוון שממדגם למדגם אנו יכולים לקבל ממוצע מדגם שונה, אזי ממוצע המדגם הוא משתנה מקרי ויש לו התפלגות.

גדלים המתארים התפלגות כלשהי או אוכלוסייה כלשהי נקראים פרמטרים.

להלן רשימה של פרמטרים החשובים לפרק זה:

ממוצע האוכלוסייה נסמן ב- $\mu$  (נקרא גם תוחלת).

שונות אוכלוסייה נסמן ב- $\sigma^2$ .

סטיית תקן של אוכלוסייה:  $\sigma$ .

### תכונות התפלגות:

ממוצע כל ממוצעי המדגם האפשריים שווה לממוצע האוכלוסייה:  $E(\bar{x}) = \mu_x = \mu$ .

שונות כל ממוצעי המדגם האפשריים שווה לשונות האוכלוסייה מחולק ב- $n$ .

תכונה זו נכונה רק במדגם מקרי:  $V(\bar{x}) = \sigma_x^2 = \frac{\sigma^2}{n}$ .

יש יחס הפוך בין גודל המדגם לבין שונות ממוצעי המדגם.

אם נוציא שורש לשונות נקבל סטיית תקן של ממוצע המדגם שנקראת גם

טעות תקן:  $\sigma(\bar{x}) = \sqrt{\frac{\sigma^2}{n}} = \frac{\sigma}{\sqrt{n}}$ .

### דוגמה (פתרון בהקלטה):

השכר הממוצע במשק הינו 9000 ₪ עם סטיית תקן של 4000. דגמו באקראי 25 עובדים.

א. מיהי אוכלוסיית המחקר? מהו המשתנה הנחקר?

ב. מהם הפרמטרים של האוכלוסייה?

ג. מה התוחלת ומהי סטיית התקן של ממוצע המדגם?

**דגימה מהתפלגות נורמאלית:**

אם נדגום מתוך אוכלוסייה שהמשתנה בה מתפלג נורמאלית עם ממוצע  $\mu$  ושוונות  $\sigma^2$ .

$$\bar{x} \sim N\left(\mu, \frac{\sigma^2}{n}\right), Z_{\bar{x}} = \frac{\bar{x} - \mu}{\frac{\sigma}{\sqrt{n}}}$$

ממוצע המדגם גם יתפלג נורמאלית:

**דוגמה (פתרון בהקלטה):**

משקל תינוק ביום היוולדו מתפלג נורמאלית עם ממוצע 3400 גרם וסטיית תקן של 400 גרם.  
 מה ההסתברות שבמדגם של 4 תינוקות אקראיים בעת הולדתם המשקל הממוצע של התינוקות יהיה מתחת ל-3.5 ק"ג?

**משפט הגבול המרכזי:**

אם אוכלוסייה מתפלגת כלשהו עם ממוצע  $\mu$  ושוונות  $\sigma^2$  אזי עבור מדגם מספיק

$$\bar{x} \rightsquigarrow N\left(\mu, \frac{\sigma^2}{n}\right) \quad (n \geq 30)$$

ממוצע המדגם מתפלג בקירוב נורמאלי:

**דוגמה (פתרון בהקלטה):**

משקל חפיסת שוקולד בקו ייצור מתפלג עם ממוצע 100 גרם וסטיית תקן של 4 גרם.  
 דגמו מקו הייצור 36 חפיסות שוקולד אקראיות.  
 מה ההסתברות שהמשקל הממוצע של חפיסות השוקולד שנדגמו יהיה מתחת ל-102 גרם?

**שאלות:**

- (1) מתוך כלל הסטודנטים במכללה שסיימו סטטיסטיקה א נדגמו שני סטודנטים. נתון שממוצע הציונים של כלל הסטודנטים היה 78 עם סטיית תקן של 15.
- מיהי האוכלוסייה?
  - מה המשתנה?
  - מהם הפרמטרים?
  - מהו גודל המדגם?
  - מהו תוחלת ממוצע המדגם?
  - מהי טעות התקן?

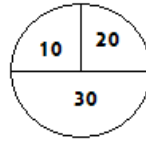
- (2) להלן התפלגות מספר מקלטי הטלוויזיה למשפחה בישוב מסוים:

מספר משפחות	מספר מקלטים
500	0
2500	1
3500	2
3000	3
500	4
סך הכול $N = 10000$	

- בנו את פונקציית ההסתברות של  $X$ .
  - חשבו את התוחלת, השונות וסטיית התקן של  $X$ .
  - אם נדגום 4 משפחות מהישוב עם החזרה מה תהיה התוחלת, מהי השונות ומהי סטיית התקן של ממוצע המדגם?
- (3) אם נטיל קובייה פעמיים ונתבונן בממוצע התוצאות שיתקבלו, מה תהיה התוחלת ומה תהיה סטיית התקן של ממוצע זה?
- (4) משקל תינוק ביום היוולדו מתפלג נורמאלית עם ממוצע 3400 גרם וסטיית תקן של 400 גרם.
- מה ההסתברות שתינוק אקראי בעת הלידה ישקול פחות מ-3800 גרם? נתון כי ביום מסוים נולדו 4 תינוקות.
  - מה ההסתברות שהמשקל הממוצע שלהם יעלה על 4 ק"ג?
  - מה ההסתברות שהמשקל הממוצע של התינוקות יהיה מתחת ל-2.5 ק"ג?
  - מה ההסתברות שהמשקל הממוצע של התינוקות יהיה רחוק מהתוחלת בלא יותר מ-50 גרם?
  - הסבירו ללא חישוב כיצד התשובה לסעיף הקודם הייתה משתנה אם היה מדובר על יותר מ-4 תינוקות?

- (5) הגובה של המתגייסים לצה"ל מתפלג נורמאלית עם תוחלת של 175 ס"מ וסטיית תקן של 10 ס"מ. ביום מסוים התגייסו 16 חיילים.
- מה ההסתברות שהגובה הממוצע שלהם יהיה לפחות 190 ס"מ?
  - מה ההסתברות שהגובה הממוצע שלהם יהיה בדיוק 180 ס"מ?
  - מה ההסתברות שהגובה הממוצע שלהם יסטה מתוחלת הגבהים בפחות מ-5 ס"מ?
  - מהו הגובה שבהסתברות של 90% הגובה הממוצע של המדגם יהיה נמוך ממנו?
- (6) הזמן הממוצע שלוקח לאדם להגיע לעבודתו 30 דקות עם שונות של 16 דקות רבועות. האדם נוסע לעבודה במשך שבוע 5 פעמים.
- לצורך הפתרון הניחו שזמן הנסיעה לעבודה מתפלג נורמאלית.
- מה ההסתברות שבמשך שבוע משך הנסיעה הממוצע יהיה מעל 33 דקות?
  - מהו הזמן שבהסתברות של 90% ממוצע משך הנסיעה השבועי יהיה גבוה ממנו?
  - מה ההסתברות שממוצע משך הנסיעה השבועי יהיה מרוחק מ-30 דקות בלפחות 2 דקות?
  - כיצד התשובה לסעיף הקודם הייתה משתנה אם האדם היה נוסע לעבודה 6 פעמים בשבוע?
- (7) נפח היין בבקבוק מתפלג נורמאלית עם תוחלת של 750 סמ"ק וסטיית תקן של 10 סמ"ק.
- בארגו 4 בקבוקי יין. מה ההסתברות שהנפח הממוצע של הבקבוקים בארגו יהיה בדיוק 755 סמ"ק?
  - בארגו 4 בקבוקי יין. מה ההסתברות שהנפח הממוצע של הבקבוקים בארגו יהיה יותר מ-755 סמ"ק?
  - בארגו 4 בקבוקי יין. מה ההסתברות שהנפח הממוצע של הבקבוקים בארגו יהיה לפחות 755 סמ"ק?
  - בקבוקי היין שבארגו נמזגים לקערה עם קיבולת של שלושה ליטר. מה ההסתברות שהיין יגלוש מהקערה?
- (8) משתנה מתפלג נורמאלית עם תוחלת של 80 וסטיית תקן 4.
- מה ההסתברות שממוצע המדגם יסטה מתוחלתו בלא יותר מיחידה כאשר גודל המדגם הוא 9?
  - מה ההסתברות שממוצע המדגם יסטה מתוחלתו בלא יותר מיחידה שגודל המדגם הוא 16?
  - הסבר את ההבדל בתשובות של שני הסעיפים.

9) בקזינו ישנה רולטה. על הרולטה רשומים המס' הבאים כמוראה בשרטוט:



- אדם מסובב את הרולטה וזוכה בסכום הרשום על הרולטה.
- בנו את פונקציית ההסתברות של סכום הזכייה במשחק בודד.
  - מה התוחלת ומה השונות של סכום הזכייה?
  - אם האדם ישחק את המשחק 5 פעמים מה התוחלת ומה השונות של ממוצע סכום הזכייה בחמשת המשחקים?
  - אם האדם משחק את המשחק 50 פעם מה ההסתברות שבסה"כ יזכה ב-1050 ₪ ומעלה?

10) לפי הערכות הלשכה המרכזית לסטטיסטיקה השכר הממוצע במשק הוא 8000 ₪ עם סטיית תקן של 3000 ₪. מה ההסתברות שבמדגם מקרי של 100 עובדים השכר הממוצע יהיה יותר מ-8500 ₪?

11) קובייה הוטלה 50 פעמים. מה ההסתברות שהממוצע של התוצאות יהיה לפחות 3.72?

- 12) אורך צינור שמפעל מייצר הינו עם ממוצע של 70 ס"מ וסטיית תקן של 10 ס"מ.
- נלקחו באקראי 100 מוטות, מה ההסתברות שממוצע אורך המוטות יהיה בין 68 ל-78 ס"מ?
  - יש לחבר 2 בניינים באמצעות מוטות. המרחק בין שני הבניינים הינו 7200 ס"מ. מה ההסתברות ש-100 המוטות יספיקו למלאכה?
  - מה צריך להיות גודל המדגם המינימאלי, כדי שבהסתברות של 5% ממוצע המדגם יהיה קטן מ-69 ס"מ. היעזרו במשפט הגבול המרכזי.

13) נתון משתנה מקרי בדיד בעל פונקציית ההסתברות הבאה:

2	4	6	8	$X$
$\frac{1}{4}$	$\frac{1}{4}$	$\frac{1}{4}$	$\frac{1}{4}$	$P(X)$

מתוך התפלגות זו נלקח מדגם מקרי בגודל 50. מה הסיכוי שממוצע המדגם יהיה קטן מ-5?

14 נתון ש- $X \sim N(\mu, \sigma^2)$ . דגמו 5 תצפיות מאותה התפלגות והתבוננו במוצע

המדגם  $\bar{X}$ . לכן:  $P(\bar{X} > \mu)$  יהיה (בחרו בתשובה הנכונה):

- א. 0.
- ב. 0.5.
- ג. 1.
- ד. לא ניתן לדעת.

15 נתון ש- $X$  מתפלג כלשהו עם תוחלת  $\mu$  ושונויות  $\sigma^2$ .

החליטו לבצע מדגם בגודל 200 מתוך ההפלגות הנתונה לפי משפט הגבול המרכזי מתקיים (בחרו בתשובה הנכונה):

א.  $X \sim N\left(\mu, \frac{\sigma^2}{200}\right)$ .

ב.  $\mu \sim N\left(\mu, \frac{\sigma^2}{200}\right)$ .

ג.  $\bar{X} \sim N(\mu, \sigma^2)$ .

ד.  $\bar{X} \sim N\left(\mu, \frac{\sigma^2}{200}\right)$ .

16 נתון ש- $X \sim N(\mu, \sigma^2)$ . אם נדגום  $n$  תצפיות מתוך ההתפלגות ונגדיר:  $\bar{X} = \frac{\sum_{i=1}^n X_i}{n}$ ,

אזי (בחרו בתשובה הנכונה):

א.  $\mu$  ו- $\bar{X}$  יהיו משתנים מקריים.

ב.  $\mu$  יהיה משתנה מקרי ו- $\bar{X}$  קבוע.

ג.  $\bar{X}$  יהיה משתנה מקרי ו- $\mu$  קבוע.

ד.  $\mu$  ו- $\bar{X}$  יהיו קבועים.

17 משקל חפיסת שוקולד בקו ייצור מתפלג עם ממוצע 100 גרם. החפיסות נארזות

בקרטון המכיל 36 חפיסות שוקולד אקראיות. ההסתברות שהמשקל הממוצע

של חפיסות השוקולד בקרטון יהיה מעל 99 גרם הוא 0.9932.

א. מהי סטיית התקן של משקל חפיסת שוקולד בודדת?

ב. מה הסיכוי שמתוך 4 קרטונים בדיוק קרטון אחד יהיה עם משקל ממוצע

לחפיסה הנמוך מ-100 גרם?

**18** משתנה מקרי כלשהו מתפלג עם סטיית תקן של 20.  
מה הסיכוי שאם נדגום 100 תצפיות בלתי תלויות מאותה התפלגות אזי ממוצע המדגם יסטה מתוחלתו בפחות מ-2?

## תשובות סופיות:

- (1) א. כלל הסטודנטים במכללה שסיימו סטטיסטיקה א. ב. ציון.  
 ג. ממוצע: 78, סטיית תקן: 15.  
 ד. 2.  
 ה. 78.  
 ו. 10.6.

(2) א. להלן טבלה:

4	3	2	1	0	$X$
0.05	0.3	0.35	0.25	0.05	$P(X)$

ב.  $\sigma = 0.973$ ,  $\sigma^2 = 0.9475$ ,  $\mu = 2.05$

ג.  $\sigma(\bar{X}) = 0.486$ ,  $\sigma_{\bar{x}}^2 = 0.2369$ ,  $\mu_{\bar{x}} = 2.05$ .

(3)  $\sigma(\bar{X}) = 1.21$ ,  $\mu_{\bar{x}} = 3.5$

- (4) א. 0.8413      ב. 0.0013      ג. 0      ד. 0.1974
- (5) א. 0      ב. 0      ג. 0.9544      ד. 0.178.205
- (6) א. 0.0465      ב. 27.71      ג. 0.2628      ד. התשובה הייתה קטנה.
- (7) א. 0      ב. 0.1587      ג. 0.1587      ד. 0.5
- (8) א. 0.5468      ב. 0.6826
- (9) א. להלן טבלה:

30	20	10	$X$
0.5	0.25	0.25	$P(X)$

- א. התוחלת: 22.5, השונות: 13.75.
- ב. התוחלת: 22.5, השונות: 68.75.
- ד. 0.8997
- (10) 0.0475
- (11) 0.1814
- (12) א. 0.9772      ב. 0.0228      ג. 0.271
- (13) 0.5
- (14) ב'
- (15) ד'
- (16) ג'
- (17) א. 2.429      ב. 0.25
- (18) 0.6826

# מבוא לסטטיסטיקה

פרק 16 - מושגי יסוד באמידה

תוכן העניינים

70 ..... 1. כללי

## מושגי יסוד באמידה:

### רקע:

כזכור מהמפגש הקודם, פרמטר הוא גודל המתאר את האוכלוסייה או התפלגות מסוימת. כמו ממוצע הגבהים בקרב מתגייסים לצה"ל -  $\mu$ . כמו פרופורציית התומכים בממשלה בקרב אזרחי המדינה -  $p$ . בדרך כלל הפרמטרים הם גדלים שאינם ידועים באמת, ולכן מבצעים מדגמים במטרה לאמוד אותם. אין אפשרות לחשב אותם הניסיון הוא בלהעריך כמה הם שווים ככל שניתן.

- נסמן באופן כללי פרמטר באות  $\theta$  ואומד ב- $\hat{\theta}$ . הוא סטטיסטי המחושב על המדגם ובאמצעותו נאמוד את  $\theta$ .
- שגיאת אמידה:  $|\hat{\theta} - \theta|$  - ההפרש בין האומד לאמת (הפרמטר).

### דוגמה (פתרון בהקלטה):

בכנסת ה-19 קיבלה מפלגת העבודה 15 מנדטים. בערוץ 10 ברגע סגירת הקלפיות העריכו את מספר המנדטים של המפלגה להיות 17 מנדטים וזאת על סמך תוצאות מדגם של הערוץ.

- מה הפרמטר בדוגמה זו?
  - מהי טעות האמידה של ערוץ 10?
- $E(\hat{\theta}) = \theta$ : יהיה אומד חסר הטיה ל- $\theta$  אם התוחלת של  $\hat{\theta}$  תהיה שווה ל- $\theta$ .
  - טעות התקן של אומד היא סטיית התקן שלו, כלומר:  $\sigma(\hat{\theta}) = S.E$

**פרמטרים מרכזיים והאומדים שלהם:**

**ממוצע האוכלוסייה  $\mu$ :**

$$\bar{x} = \frac{\sum x}{n} \quad \text{האומד הנקודתי שלו יהיה: ממוצע המדגם:}$$

$$E(\bar{x}) = \mu \quad \text{לכן } \bar{x} \text{ הינו אומר חסר הטיה ל-} \mu \text{ . כמו כן, טעות תקן: } \sigma(\bar{x}) = \frac{\sigma}{\sqrt{n}} = SE$$

**פרופורציה באוכלוסייה  $p$ :**

$$\hat{p} = \frac{y}{n} \quad \text{האומד הנקודתי שלו יהיה: פרופורציה במדגם:}$$

$$E(\hat{p}) = p, \quad \text{לכן } \hat{p} \text{ הינו אומר חסר הטיה ל-} p \text{ . כמו כן טעות התקן: } \sigma(\hat{p}) = \sqrt{\frac{p \cdot (1-p)}{n}}$$

**שונות האוכלוסייה  $\sigma^2$ :**

$$S^2 = \frac{\sum (x_i - \bar{x})^2}{n-1} \quad \text{האומד הנקודתי שלו יהיה:}$$

$$E(S^2) = \sigma^2 \quad \text{ולכן } S^2 \text{ הינו אומד חסר הטיה ל-} \sigma^2 \text{ .}$$

$$S^2 = \frac{\sum (x_i - \bar{x})^2}{n-1} = \frac{\sum x_i^2 - n\bar{x}^2}{n-1}$$

**הערה:** אומד הוא הנוסחה הכללית לאמידת הפרמטר ואומדן הוא הערך הספציפי שהתקבל במדגם מסוים.

**דוגמה (פתרון בהקלטה):**

נדגמו 10 משפחות בתל אביב ונבדק עבור כל משפחה מספר הילדים שלה.  
 להלן התוצאות שהתקבלו: 2, 1, 3, 2, 1, 4, 5, 2, 1, 3.  
 אמדו באמצעות אומדים חסרי הטיה את הפרמטרים הבאים:

1. ממוצע מספר הילדים למשפחה בתל אביב.
2. שונות מספר הילדים למשפחה בתל אביב.
3. פרופורציית המשפחות בנות שני ילדים.

## שאלות:

- (1) מתוך 500 טירונים, נמצאו 120 בעלי שברי הליכה. נתון שהסיכוי שטירון יהיה עם שבר הליכה הוא 0.25.
- מהי האוכלוסייה המוצגת בשאלה? מהם הפרמטרים שלה?
  - מהי טעות התקן של האומדן כשהמדגם בגודל 500?
  - מהו האומדן לפרמטר?
  - מהי טעות האמידה?
- (2) לפי נתוני היצרן, מקרר צורך בממוצע 2400 וואט לשעה עם סטיית תקן של 500 וואט לשעה.
- במדגם של 25 מקררים של היצרן התקבל ממוצע של 2342 וואט לשעה.
- מהי האוכלוסייה המוצגת בשאלה? מהם הפרמטרים שלה?
  - מהי טעות התקן של האומדן?
  - מהו האומדן לפרמטר?
  - מהי טעות האמידה?
- (3) נדגמו עשרה מתגייסים לצה"ל. גובהם נמדד בס"מ. להלן התוצאות שהתקבלו: 168, 184, 192, 171, 180, 177, 187, 168, 177 ו-175.
- מצאו אומדן חסר הטיה לגובה הממוצע של מתגייסי צה"ל.
  - מצאו אומדן חסר הטיה לשונות הגבהים של מתגייסי צה"ל.
  - מצאו אומדן חסר הטיה לפרופורציות המתגייסים בגובה של לפחות 180 ס"מ.
- (4) נדגמו 20 שכירים באקראי. עבור כל שכיר נמדד השכר באלפי שקלים.
- להלן התוצאות שהתקבלו:  $\sum_{i=1}^{20} X_i = 162$ ,  $\sum_{i=1}^{20} X_i^2 = 1502.2$ .
- אמדו את השכר הממוצע של השכירים במשק.
  - אמדו את סטיית התקן של שכר השכירים במשק.
- (5) במטרה לאמוד את ממוצע האוכלוסייה, דגמו תצפיות בלתי תלויות מהאוכלוסייה וחישבו את הממוצע שלהם. מהי טעות התקן?
- סטיית התקן של האוכלוסייה.
  - סטיית התקן של ממוצע האוכלוסייה.
  - סטיית התקן של המדגם.
  - סטיית התקן של ממוצע המדגם.

6) משקל הממוצע של אוכלוסייה מסוימת הוא 75 ק"ג עם שונות של 25. אם יבחרו כל המדגמים האפשריים בגודל 10 מאוכלוסייה זו סטיית התקן של ממוצעי המדגמים תהייה:

א. 3.

ב. 2.5.

ג. 1.581.

ד. אין מספיק נתונים לדעת.

7) במדגם מקרי, מתי סכום ריבועי הסטיות מהממוצע,  $\sum_{i=1}^n (x_i - \bar{x})^2$ , מחולק ב- $n-1$ ?

א. כאשר  $n$  קטן.

ב. כאשר תצפיות המדגם אינן בלתי תלויות.

ג. כאשר האוכלוסייה אינה מתפלגת נורמאלית.

ד. כאשר מעוניינים באומד חסר הטיה לשונות האוכלוסייה ממנה הוצא המדגם.

ה. כאשר מעוניינים לחשב את שונות התפלגות הדגימה של ממוצע המדגם.

8)  $X_1, X_2, \dots, X_{16}$  מדגם מקרי מתוך אוכלוסייה בעלת ממוצע  $\mu$  לא ידוע

ושונות:  $\sigma^2 = 64$ . טעות התקן של האומד ל- $\mu$  היא:

א. 16.

ב. 8.

ג. 4.

ד. 2.

9) מהו אומד חסר הטיה?

א. אומד שערכו שווה לממוצע התפלגות הדגימה שלו.

ב. אומד שערכו שווה לערך הפרמטר באוכלוסייה.

ג. אומד שממוצע התפלגות הדגימה שלו שווה לערך הפרמטר באוכלוסייה.

ד. אומד שהסיכוי שערכו יהיה גבוה מערך הפרמטר באוכלוסייה שווה

לסיכוי שיהיה נמוך ממנו.

### תשובות סופיות:

- (1) א. 0.25    ב. 0.019    ג. 0.24    ד. 0.01
- (2) א. אוכלוסייה: מקררים של יצרן, תוחלת: 2400, סטיית תקן: 500.  
 ב. 100    ג. 2342    ד. 58
- (3) א. 177.9    ב. 64.1    ג. 0.4
- (4) א. 8.1    ב. 3.16
- (5) ד'
- (6) ג'
- (7) ד'
- (8) ד'
- (9) ג'

# מבוא לסטטיסטיקה

פרק 17 - רווח סמך לתוחלת (ממוצע)

תוכן העניינים

- 75 ..... 1. רווח סמך כששונות האוכלוסיה ידועה
- 80 ..... 2. קביעת גודל מדגם
- 82 ..... 3. רווח סמך כששונות האוכלוסיה לא ידועה

## רווח סמך כששונות האוכלוסייה ידועה:

### רקע:

ממוצע המדגם הוא אומדן לממוצע האוכלוסייה, אך לא באמת ניתן להבין ממנו על גודלו של ממוצע האוכלוסייה. ההסתברות שממוצע המדגם יהיה בדיוק כמו הממוצע האמתי הוא אפסי.

מה שנהוג לעשות כדי לאמוד את ממוצע האוכלוסייה, זה לבנות רווח סמך.

נבנה מרווח בטחון שהסיכוי שהפרמטר  $\mu$  ייכלל בתוכו הוא:  $1-\alpha$ .

$1-\alpha$ : נקרא רמת בטחון או רמת סמך. כך ש:  $P(A \leq \mu \leq B) = 1-\alpha$ .

A - גבול התחתון של רווח הסמך.

B - הגבול העליון של רווח הסמך.

$L = B - A$  - אורך רווח הסמך.

### דוגמה (פתרון בהקלטה):

חוקר דגם 25 חיילים שנבחנו במבחן הפסיכומטרי. הוא בנה רווח סמך לממוצע הציונים במבחן הפסיכומטרי בקרב אוכלוסיית החיילים וקיבל בין 510 ל-590. רווח הסמך נבנה ברמת סמך של 95%.

1. מהי אוכלוסיית המחקר?

2. מה המשתנה באוכלוסייה?

3. מה הפרמטר שהחוקר רצה לאמוד?

4. מהו רווח הסמך?

5. מה אורך רווח הסמך?

6. מהי רמת הביטחון של רווח הסמך?

בפרק זה נרצה לבנות רווח סמך לתוחלת ( $\mu$ ) במקרה ש- $\sigma^2$  (שונות האוכלוסייה) ידועה.

פרמטר אותו נרצה לאמוד:  $\mu$ .

אומד נקודתי:  $\bar{x}$ .

תנאים לבניית רווח הסמך:  $X \sim N$  או  $n \geq 30$ .

$\sigma^2$  (שונות האוכלוסייה) ידועה.

נוסחה לרווח הסמך:  $\bar{x} \pm Z_{1-\frac{\alpha}{2}} \cdot \frac{\sigma}{\sqrt{n}}$

### דוגמה (פתרון בהקלטה):

על פי נתוני היצרן אורך חיי סוללה מתפלג נורמאלית עם סטיית תקן של 1 שעה. מעוניינים לאמוד את תוחלת חיי סוללה. נדגמו באקראי 4 סוללות, אורך החיים הממוצע שהתקבל הוא 13.5 שעות. בנו רווח סמך ברמת סמך של 95% לתוחלת אורך חיי סוללה.

שגיאת האמידה המקסימלית:  $\varepsilon = Z_{1-\frac{\alpha}{2}} \cdot \frac{\sigma}{\sqrt{n}}$

$\varepsilon$  - נותן את שגיאת האמידה המקסימלית, דבר שנקרא גם טעות סטטיסטית, טעות דגימה.

### דוגמה (פתרון בהקלטה):

בהמשך לשאלה עם הסוללות. מה ניתן להגיד בביטחון של 95% על שגיאת האמידה?

קשרים מתמטיים ברווח הסמך:

• אורך רווח הסמך הוא פעמיים שגיאת האמידה המקסימלית:  $L = 2\varepsilon$ .

• ממוצע המדגם נופל תמיד באמצע רווח הסמך:  $\bar{X} = \frac{A+B}{2}$ .

• ככל שמספר התצפיות ( $n$ ) גבוה יותר, כך יש יותר אינפורמציה ולכן האומד יותר מדויק, ולכן נקבל רווח סמך יותר קצר.

• ככל שרמת הביטחון ( $1-\alpha$ ) גבוהה יותר, כך  $z_{1-\frac{\alpha}{2}}$  יותר גבוה, ורווח הסמך יותר ארוך.

## שאלות:

- 1) חוקר התעניין לאמוד את השכר הממוצע במשק. על סמך מדגם הוא קבע שבביטחון של 95% כי השכר הממוצע במשק נע בין 9200 ל-9800 ₪.
- מי האוכלוסייה במחקר?
  - מה המשתנה הנחקר?
  - מה הפרמטר שאותו רוצים לאמוד?
  - מה רווח הסמך לפרמטר?
  - מהי רמת הסמך לפרמטר?
  - מה אורך רווח הסמך?
  - מה הסיכוי שטעות הדגימה תעלה על 300 ₪?
- 2) מעוניינים לאמוד את התפוקה היומית הממוצעת של מפעל מסוים ברמת סמך של 95%. במדגם אקראי של 100 ימים התקבלה תפוקה ממוצעת 4950 מוצרים ביום. לצורך פתרון הנח שסטיית התקן האמתית ידועה ושווה 150 מוצרים ביום. בנו את רווח הסמך.
- 3) מעוניינים לאמוד את ממוצע אורך החיים של מכשיר. מנתוני היצרן ידוע שאורך החיים מתפלג נורמאלית עם סטיית תקן של 20 שעות. נדגמו 25 מכשירים ונמצא כי ממוצע אורך החיים שלהם היה 230 שעות.
- בנו רווח סמך ברמת סמך של 90% לאורך החיים הממוצע של מכשיר.
  - בנו רווח סמך ברמת סמך של 95% לאורך החיים הממוצע של מכשיר.
  - הסבירו כיצד ומדוע השתנה רווח הסמך.
- 4) דגמו 200 עובדים מהמשק הישראלי. השכר הממוצע שלהם היה 9700 ₪. נניח שסטיית התקן של השכר במשק היא 3000 ₪.
- בנו רווח סמך ברמת סמך של 95% לתוחלת השכר במשק.
  - מה ניתן לומר בביטחון של 95% על הסטייה המרבית בין ממוצע המדגם לתוחלת השכר?
  - מה היה צריך להיות גודל המדגם אם הינו רוצים להקטין את רווח הסמך ב-50%?
  - אם היינו מגדילים את גודל המדגם ובונים רווח סמך באותה רמת סמך האם היה ניתן לטעון בביטחון רב יותר שרווח הסמך מכיל את הפרמטר?

- (5) בנו רווח סמך לממוצע הציונים של מבחן אינטליגנציה. ידוע שסטיית התקן היא 15 והמדגם מתבסס על 100 תצפיות. רווח הסמך שהתקבל הוא (105,99). שחזרו את:
- ממוצע המדגם.
  - שגיאת האמידה המקסימאלית.
  - רמת הסמך.
- (6) זמן החלמה מאנגינה מתפלג עם סטיית תקן של יומיים. חברת תרופות מעוניינת לחקור אנטיביוטיקה חדשה שהיא פיתחה. במחקר השתתפו 60 אנשים שחלו באנגינה וקיבלו את האנטיביוטיקה החדשה. בממוצע הם החלימו לאחר 4 ימים.
- בנו רווח סמך לתוחלת זמן ההחלמה תחת האנטיביוטיקה החדשה ברמת סמך של 90%.
  - מה היה קורה לאורך רווח הסמך אם היה תקציב להגדלת גודל המדגם פי 4? הסבירו.
  - מה היה קורה לאורך רווח הסמך אם היינו בונים את רווח הסמך ברמת סמך גדולה יותר? הסבירו.
- (7) חוקר בנה רווח סמך לממוצע וקיבל את רווח הסמך הבא:  $82 < \mu < 92$ . נתון שסטיית התקן בהתפלגות שווה ל-10 ושהמדגם מתבסס על 16 תצפיות. התפלגות המשתנה היא נורמאלית.
- מהו ממוצע המדגם?
  - מהי רמת הסמך של רווח הסמך שנבנה?
  - מה הסיכוי ששגיאת האמידה באמידת ממוצע האוכלוסייה תעלה על 5%?
- (8) חוקר בנה רווח סמך לתוחלת כאשר השונות בהתפלגות ידועה ברמת סמך של 95%. אם החוקר כעת יבנה על סמך אותם נתונים רווח סמך ברמת סמך קטנה מ-95%, איזה מהמשפטים הבאים לא יהיה נכון.
- אורך רווח הסמך החדש יהיה קטן יותר.
  - גודל המדגם יהיה כעת קטן יותר.
  - המרחק בין ממוצע המדגם לקצות רווח הסמך יהיו קטנים יותר ברווח הסמך החדש.
  - רמת הביטחון לבנות רווח הסמך החדש תהיה קטנה יותר.

(9) חוקר בנה רווח סמך ל- $\mu$  וקיבל:  $48 < \mu < 54$ . מה נכון בהכרח:

א.  $\mu = 51$ .

ב.  $\bar{X} = 6$ .

ג.  $\bar{X} = 51$ .

ד. אורך רווח הסמך הינו 3.

(10) איזה מהגורמים הבאים אינו משפיע על גודלו של רווח בר סמך, כאשר שונות האוכלוסייה ידועה (בחרו בתשובה הנכונה):

א. רמת הביטחון.

ב. סטיית התקן באוכלוסייה.

ג. מספר המשתתפים.

ד. סטיית התקן במדגם.

### תשובות סופיות:

(1) א. העובדים במשק. ב. שכר ב-ש. ג.  $\mu$ . ד.  $9200 < \mu < 9800$ .

ה. 0.95. ו. 600. ז. 0.05.

(2)  $4920.6 < \mu < 4979.4$

(3) א.  $223.42 < \mu < 236.58$ . ב.  $222.16 < \mu < 237.84$ .

ג. ראה סרטון.

(4) א.  $10,116 < \mu < 9284$ . ב. הסטייה המירבית בין  $\bar{x}$  ל- $\mu$  היא 416 שם בבטחון של 95%.

ג. 800. ד. לא.

(5) א. 102. ב. 3. ג. 0.9544.

(6) א.  $4.42 < \mu < 83.5$ . ב. יקטן פי 2. ג. גדל.

(7) א. 87. ב. 5. ג. 0.9544.

(8) ב'.

(9) ג'.

(10) ד'.

## קביעת גודל מדגם:

### רקע:

אם מעוניינים לאמוד את ממוצע האוכלוסייה כאשר סטיית התקן של האוכלוסייה ידועה:  $\sigma$  ברמת סמך של  $1-\alpha$  ושגיאת אמידה שלא תעלה על  $\varepsilon$  מסוים, נציב

$$.n \geq \left( \frac{z_{1-\frac{\alpha}{2}} \cdot \sigma}{\varepsilon} \right)^2$$

בנוסחה הבאה:

כדי להציב בנוסחה צריך שהמשתנה הנחקר יתפלג נורמלית או שהמדגם ייצא בגודל של לפחות 30 תצפיות.

### דוגמה (פתרון בהקלטה):

חברת תעופה מעוניינת לאמוד את תוחלת משקל המטען של נוסע. נניח שמשקל מטען של נוסע מתפלג נורמאלית עם סטיית תקן של 2 ק"ג. כמה נוסעים יש לדגום אם מעוניינים שבביטחון של 98% הסטייה המרבית בין ממוצע המדגם לממוצע האמתי לא יעלה על 0.5 ק"ג? (תשובה: 87).

## שאלות:

- (1) משתנה מקרי מתפלג נורמאלית עם סטיית תקן ידועה 12. מה צריך להיות גודל המדגם כדי לבנות רווח סמך ברמת סמך של 98% שאורכו לא יעלה על 2?
- (2) מעוניינים לאמוד את הדופק הממוצע של מתגייסים לצבא. מעוניינים שבביטחון של 95% שגיאת האמידה המרבית תהיה 0.5. נניח שהדופק מתפלג נורמאלית על סטיית תקן של 3 פעימות לדקה.  
 א. כמה מתגייסים יש לדגום?  
 ב. אם ניקח מדגם הגדול פי 4 מהמדגם של סעיף א ונאמוד את הממוצע באותה רמת סמך כיצד הדבר ישפיע על שגיאת האמידה?
- (3) יהי  $X$  משתנה מקרי עם ממוצע  $\mu$  וסטיית תקן  $\sigma$ . חוקר רוצה לבנות רווח בר סמך ל- $\mu$  ברמת ביטחון של 0.95, כך שהאורך של הרווח יהיה  $0.5\sigma$ . מהו גודל המדגם הנדרש?

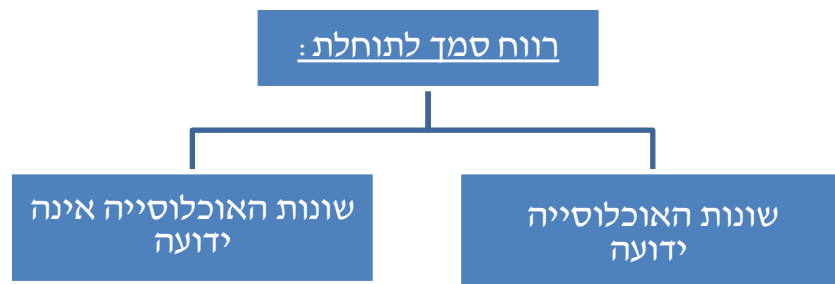
## תשובות סופיות:

- (1) .780  
 (2) א. 139. ב. הדבר יקטין את  $\varepsilon$  פי 2.  
 (3)  $n = 62$ .

## רווח סמך כששונות האוכלוסייה לא ידועה:

רקע:

בבואנו לבנות רווח סמך לתוחלת אנו צריכים להתמקד בשני המצבים הבאים:

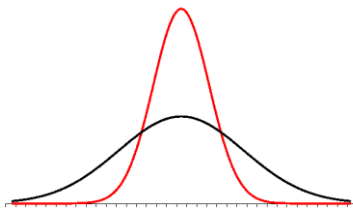


בפרק זה נעסוק במקרה ששונות האוכלוסייה  $(\sigma^2)$  אינה ידועה לנו.

מקרה יותר פרקטי.

**התנאי:**  $X \sim N$  או שהמדגם גדול.

**רווח סמך:**  $\bar{X} \pm t_{1-\frac{\alpha}{2}}^{(n-1)} \cdot \frac{S}{\sqrt{n}}$



$$S^2 = \frac{\sum_{i=1}^n (X_i - \bar{X})^2}{n-1} = \frac{\sum_{i=1}^n X_i^2 - n\bar{X}^2}{n-1} \quad \text{האומד לשונות:}$$

**התפלגות T:**

הינה התפלגות סימטרית פעמונית שהתוחלת שלה היא 0. ההתפלגות דומה

להתפלגות Z רק שהיא יותר רחבה ולכן הערכים שלה יהיו יותר גבוהים.

התפלגות T תלויה במושג שנקרא דרגות חופש. דרגות החופש הן:  $df = n-1$ .

ככל שדרגות החופש עולות ההתפלגות הופכת להיות יותר גבוהה וצרה.

כשדרגות החופש שואפות לאינסוף התפלגות T שואפת להיות כמו התפלגות Z.

**דוגמה (פתרון בהקלטה):**

הזמן שלוקח לפתור שאלה מסוימת בחשבון מתפלג אצל תלמידי כיתות ח' נורמאלית.

במטרה לאמוד את תוחלת זמן הפתרון נדגמו 4 תלמידים בכיתה ח'. להלן התוצאות

שהתקבלו בדקות: 4.7, 5.2, 4.6, 5.3.

בנו רווח סמך ברמת סמך של 95% לממוצע זמן הפתרון לשאלה בקרב תלמידי כיתה ח'.

## שאלות:

- (1) מחקר מעוניין לדעת כיצד תרופה מסוימת משפיעה על קצב פעימות הלב. ל-5 אנשים שנטלו את התרופה מדדו את הדופק והתקבל מספר פעימות לדקה: 84, 88, 84, 79, 89. הערה: לצורך פתרון הנח שקצב פעימות הלב מתפלג נורמאלית בקירוב.
- א. בנו רווח סמך ברמת סמך של 95% לתוחלת הדופק של נוטלי התרופה הנ"ל.  
 ב. נתון שהדופק הממוצע ללא לקיחת התרופה הינו 70. לאור זאת, האם בביטחון של 95% התרופה משפיעה על הדופק?  
 ג. בהמשך לסעיף א', אם היינו בונים את רווח הסמך ברמת ביטחון של 99%, כיצד הדבר היה משפיע על רווח הסמך?
- (2) במדגם שנעשה על 25 מתגייסים לצבא האמריקאי התקבל כי גובה ממוצע של חייל הינו 178 ס"מ עם סטיית תקן:  $S = 13$  ס"מ. בנו רווח סמך ברמת סמך של 90% לתוחלת גובה המתגייסים לצבא האמריקאי. מה יש להניח לצורך פתרון?
- (3) אדם מעוניין לאמוד את זמן הנסיעה הממוצע שלו לעבודה. לצורך כך הוא דוגם 5 ימים שזמן הנסיעה בהם בדקות הוא: 30, 40, 32, 34, 27.
- א. ברמת ביטחון של 95% אמוד את זמן הנסיעה הממוצע. מהי ההנחה הדרושה לצורך פתרון?  
 ב. איך גודל רווח הסמך היה משתנה אם היו דוגמים עוד ימים?
- (4) ציוני מבחן אינטליגנציה מתפלגים נורמאלית. נדגמו 25 מבחנים והתקבל ממוצע ציונים 102 וסטיית תקן מדגמית 13.
- א. בנו רווח סמך לממוצע הציונים באוכלוסייה ברמת ביטחון של 95%.  
 ב. חזרו על סעיף א' אם סטיית התקן הינה סטיית התקן האמתית של כלל הנבחנים.  
 ג. הסבירו את ההבדלים בין שני הסעיפים הנ"ל.
- (5) נשקלו 60 תינוקות אשר נולדו בשבוע ה-40 של ההיריון. המשקל נמדד בקילוגרמים. להלן התוצאות שהתקבלו:  $\sum_{i=1}^{60} X_i = 195$ ,  $\sum_{i=1}^{60} X_i^2 = 643.19$ .
- בנו רווח סמך ברמת סמך של 95% לתוחלת משקל תינוק ביום היוולדו.

- (6) נדגמו 120 אנשים אקראיים מעל גיל 50. עבור כל אדם נבדק מספר שנות השכלתו. להלן התוצאות שהתקבלו:  $\bar{x} = 13.8$ ,  $S = 2$ . בנו רווח סמך ברמת סמך של 96% לממוצע ההשכלה של אזרחים מעל גיל 50.
- (7) שני סטטיסטיקאים בנו רווח בר-סמך לאותו פרמטר  $\mu$ . לכל אחד מהסטטיסטיקאים מדגם אחר, אך באותו גודל 10. שניהם קבעו אותה רמת סמך. סטטיסטיקאי א': הניח  $\sigma = 20$ . סטטיסטיקאי ב': חישב לפי המדגם וקיבל  $S = 20$ . למי משני הסטטיסטיקאים יהיה רווח סמך ארוך יותר?  
 א. סטטיסטיקאי א'.  
 ב. סטטיסטיקאי ב'.  
 ג. אותו אורך רווח סמך לשני הסטטיסטיקאים.  
 ד. תלוי בתוצאות המדגם של כל סטטיסטיקאי.
- (8) נתון ש:  $X \sim N(\mu, \sigma^2)$  ביצעו מדגם בגודל 16 וקיבלו סטיית תקן מדגמית 10. אורך רווח הסמך שהתקבל הוא: 8.765. מהי רמת הביטחון של רווח הסמך?

### תשובות סופיות:

- (1) א.  $79.88 < \mu < 89.72$       ב. כן.      ג. הוא היה גדל.
- (2) ראה בסרטון.
- (3) א. צריך להניח שהמשתנה מתפלג נורמלית.      ב. לא ניתן לדעת.
- (4) א.  $96.63 < \mu < 107.37$       ב.  $96.90 < \mu < 107.10$       ג. ראה בסרטון.
- (5)  $3.149 < \mu < 3.351$
- (6)  $13.42 < \mu < 14.18$
- (7) ב'.
- (8) 90%

# מבוא לסטטיסטיקה

פרק 18 - רווח סמך לפרופורציה

תוכן העניינים

85	.....	1. רווח הסמך לפרופורציה
88	.....	2. קביעת גודל מדגם

## רווח הסמך לפרופורציה:

**רקע:**

המטרה היא לאמוד את  $P$  – פרופורציה באוכלוסייה.

**האומד הנקודתי:**

$$\hat{p} = \frac{y}{n} \quad (Y - \text{ מספר ההצלחות שבמדגם}).$$

$$\text{רווח הסמך ל- } p : \hat{p} \pm Z_{1-\frac{\alpha}{2}} \sqrt{\frac{\hat{p}(1-\hat{p})}{n}}$$

**תנאי לבניית רווח הסמך:**

מדגם של לפחות 30 תצפיות (לעיתים נותנים תנאי של מספר הצלחות ומספר כשלונות לפחות 5 או לפחות 10).

$$\text{האומד לטעות התקן: } \sqrt{\frac{\hat{p}(1-\hat{p})}{n}}$$

$$\text{מתקיים ש: } \hat{p} = \frac{A+B}{2}, \quad L = 2\varepsilon$$

**דוגמה (פתרון בהקלטה):**

במטרה לאמוד את אחוז המובטלים במשק נדגמו 200 אזרחים, מתוכם התקבל ש-24 היו מובטלים.

א. בנו רווח סמך לאחוז המובטלים באוכלוסייה ברמת סמך של 95%.

ב. מהו האומד לטעות התקן?

## שאלות:

- (1) נדגמו 200 דירות בעיר חיפה. 48 מתוכן נמצאו כבעלות ממ"ד.  
 א. בנו רווח סמך ברמת סמך של 95% לאחוז הדירות בחיפה עם ממ"ד.  
 ב. על סמך סעיף א' מה ניתן לומר על שגיאת האמידה המקסימאלית?  
 ג. בהנחה ובחיפה 80 אלף דירות, בנו רווח סמך ברמת סמך של 95% למספר הדירות בחיפה עם ממ"ד בפועל.
- (2) במדגם של 300 אנשי היי-טק התקבל ש-180 מהם אקדמאים.  
 א. בנו רווח סמך לפרופורציית אקדמאים ברמת סמך של 95% (בקרב אנשי הייטק).  
 ב. כיצד רווח הסמך של סעיף א' היה משתנה אם היינו מקטינים את רמת הסמך?  
 ג. כיצד רווח הסמך היה משתנה אם היינו מגדילים את גודל המדגם?
- (3) במדגם של 400 נהגים התקבל רווח סמך לפרופורציית הנהגים החדשים:  
 $0.08 < p < 0.18$   
 א. כמה נהגים במדגם היו נהגים חדשים?  
 ב. מהי רמת הסמך של רווח הסמך שנבנה?
- (4) במסגרת מערכת הבחירות בארה"ב נשאלו 840 אנשים עבור איזה מועמד יצביעו. 510 אנשים ענו כי יצביעו בעד ברק אובמה. בסקר פורסם שתתכן סטייה של  $\pm 3\%$  מתוצאות האמת. באיזו רמת ביטחון הסקר השתמש?
- (5) במדגם של 300 נשים בגילאי 40-35 נמצא ש-140 היו נשואות, 80 היו גרושות, 60 רווקות והיתר אלמנות.  
 א. מצאו רווח סמך ברמה של 90% לאחוז הגרושות באוכלוסייה הנחקרת.  
 ב. מצאו רווח סמך ברמה של 99% לסיכוי שבאוכלוסייה הנחקרת תמצא אישה לא נשואה?
- (6) ביצעו מדגם באוכלוסייה. שיעור ההצלחות במדגם היה 10% ורווח הסמך ניבנה ברמת סמך של 95%. אורכו הינו 8.3156%. מהו גודל המדגם שנלקח?

**תשובות סופיות:**

- (1) א.  $.18.1\% < p < 29.9\%$   
 ב. בביטחון של 95% שגיאת האמידה היא לכל היותר 0.059.  
 ג.  $.14,480 < \mu < 23,920$
- (2) א.  $0.545 \leq p \leq 0.655$   
 ב. האורך שלו היה קטן.  
 ג. לא ניתן לדעת.
- (3) א. 0.52  
 ב. 0.997
- (4) 0.925
- (5) א.  $.30.9\% > p > 22.5\%$   
 ב.  $.60.72\% > p > 45.91\%$
- (6) 0.200

## קביעת גודל מדגם:

### רקע:

בפרק זה נדון איך קובעים גודל מדגם שבאים לאמוד פרופורציה באוכלוסייה מסוימת: החוקר קובע מראש את רמת הסמך הרצויה:  $1-\alpha$ . החוקר קובע מראש את הטעות הסטטיסטית המרבית שבה הוא מעוניין:  $\varepsilon$  (או את אורך רווח הסמך).

$L = 2\varepsilon$  - אורך רווח הסמך.

$\varepsilon$  - טעות אמידה מרבית: המרחק המקסימאלי (הסטייה) בין הפרמטר ( $p$ ) לאומד ( $\hat{p}$ ).

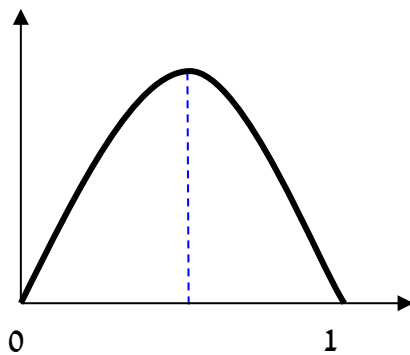
$$\varepsilon = z_{1-\frac{\alpha}{2}} \cdot \sqrt{\frac{\hat{p}(1-\hat{p})}{n}}$$

ויתעניין לדעת מהו גודל המדגם הרצוי לשם כך.

$$n \geq \left( \frac{2 \cdot z_{1-\frac{\alpha}{2}} \cdot \sqrt{\hat{p}(1-\hat{p})}}{L} \right)^2 \quad \text{נקבל ש:}$$

הבעיה שאין לנו יודעים את  $\hat{p}$ .

נתבונן בביטוי:  $\hat{p}(1-\hat{p})$ .



כיוון שאין לנו ידע מוקדם על  $\hat{p}$  נציב את המקרה השמרני ביותר שממקסם את הביטוי עבור:  $\hat{p} = 0.5$ .

$$n \geq \left( \frac{2 \cdot z_{1-\frac{\alpha}{2}} \sqrt{0.5 \cdot 0.5}}{L} \right) \Rightarrow n \geq \left( \frac{z_{1-\frac{\alpha}{2}}}{L} \right)$$

אך אם תהיה לנו אינפורמציה מוקדמת על הפרופורציה נציב את הערך הקרוב ביותר ל-0.5 האפשרי.

### דוגמה (פתרון בהקלטה):

מעוניינים לאמוד את שיעור האבטלה במשק. האמידה צריכה להתבצע ברמת סמך של 90% ועם שגיאת אמידה שלא תעלה על 4%.

א. מהו גודל המדגם המינימאלי שיש לקחת?

ב. חזור לסעיף א' אם ידוע שהאבטלה לא אמורה לעלות על 20%.

## שאלות:

- (1) הממשלה אומדת מדי חודש את אחוז התמיכה בה. מהו גודל המדגם אשר יש לקחת אם דורשים שהאומדן לא יסטה מהאחוז האמתי באוכלוסייה ביותר מ-3%, וזאת בביטחון של 95%?
- (2) משרד התקשורת מעוניין לדעת מה שיעור בתי האב עם אינטרנט.  
 א. כמה בתי אב יש לדגום אם מעוניינים שבביטחון של 90% אורך רווח הסמך לא יעלה על 8%?  
 ב. חזרו על סעיף א' אם ידעו שלפני חמש שנים ל-80% מבתי האב היה אינטרנט וכיום יש להניח שיש ליותר אינטרנט.
- (3) ערוץ טלוויזיה מעוניין לאמוד את הרייטינג של הערוץ בפריים טיים. המטרה שבביטחון של 95% הסטייה המרבית בין האומד לרייטינג האמתי לא תעלה על 4%.  
 א. כמה מכשירי PEOPLE METER יש להתקין לצורך האמידה?  
 ב. לפי הערכה מוקדמת הרייטינג של הערוץ לא יכול לעלות על 20%. בהנחה ומכשיר כזה עולה 500 ₪ ליחידה מה החיסכון הכספי מאינפורמציה זאת?
- (4) ענו על הסעיפים הבאים:  
 א. כמה אזרחים יש לדגום כדי לאמוד את אחוז התמיכה בממשלה עם אורך רווח הסמך שלא עולה על 9% ברמת סמך של 90%?  
 ב. בהנחה ובוצע מדגם שאת גודלו חיבתם בסעיף א והתקבל שאחוז התמיכה בממשלה במדגם הנו 42%. בנו רווח סמך לאחוז התמיכה בממשלה ברמת סמך של 95%.  
 ג. על סמך סעיף ב', האם תקבלו את הטענה שמיעוט האוכלוסייה תומך הממשלה?
- (5) משרד הבריאות מתכנן לבצע מדגם שמטרתו לבדוק את הסיכוי לחלות בשפעת עם לקיחת חיסון נגד שפעת. הוא מעוניין שבסיכוי של 98% טעות האמידה לא תעלה על 3%.  
 א. כמה מחוסנים יש לדגום?  
 ב. משרד הבריאות ביצע את המדגם שאת גודלו חיבתם בסעיף הקודם וקיבל ש-15% מבין אלה שקיבלו חיסון נגד שפעת בכל זאת חלו במשך החורף בשפעת. בנו ברמת סמך של 98% את הסיכוי לחלות בחורף בשפעת עם לקיחת חיסון נגד שפעת.  
 ג. בהמשך לסעיף הקודם. מהי טעות האמידה המרבית בביטחון של 98% מדוע הוא קטן מ-3%?

### תשובות סופיות:

- (1) .1068
- (2) א. .423 ב. .271
- (3) א. .601 ב. 108,000 ₪.
- (4) א. .335 ב.  $0.367 < p < 0.473$ .
- ג. בביטחון של 0.95 ניתן להגיד שמיעוט באוכלוסייה תומך בממשלה.
- (5) א. .1509 ב.  $0.15 \pm 0.02$  ג. ראה סרטון.

## מבוא לסטטיסטיקה

פרק 19 - רווח סמך להפרש תוחלות (ממוצעים) במדגמים בלתי תלויים

תוכן העניינים

1. כששוניות האוכלוסיה ידועות.....91
2. כששוניות האוכלוסיה לא ידועות ובהנחת שוויון שוניות.....93

## כששונויות האוכלוסייה ידועות:

### רקע:

המטרה היא לאמוד את פער התוחלות:  $\mu_1 - \mu_2$ , כלומר ההבדלים של הממוצעים בין שתי האוכלוסיות.

האומד נקודתי:  $\bar{x}_1 - \bar{x}_2$ .

התנאים לבניית רווח הסמך:

1.  $\sigma_1^2, \sigma_2^2$  ידועות.

2.  $X_1, X_2 \sim N$  או  $n_1, n_2 > 30$ .

3. שני מדגמים בלתי תלויים.

רווח סמך:  $(\bar{x}_1 - \bar{x}_2) \pm Z_{1-\frac{\alpha}{2}} \sqrt{\frac{\sigma_1^2}{n_1} + \frac{\sigma_2^2}{n_2}}$

אם הערך אפס נופל בגבולות רווח הסמך נגיד שבביטחון של  $1-\alpha$ , לא קיים הבדל בין התוחלות.

### דוגמה (פתרון בהקלטה):

נדגמו 100 תושבים מאזור A והמשכורת הממוצעת הייתה שם 9200 ₪. כמו כן נדגמו 120 תושבים מאזור B וממוצע המשכורות שהתקבל שם 8700 ₪. לצורך פתרון נניח שסטיית התקן של המשכורות באוכלוסיית שני האזורים היא 1800 ₪. אמדו ברמת סמך של 90% את הפרש השכר הממוצע בין אזור A לאזור B.

## שאלות:

- (1) מעוניינים לבדוק האם קיים הבדל בין ממוצע ציוני הפסיכומטרי של חיילים לממוצע ציוני הפסיכומטרי של תלמידי תיכון. ידוע שציוני הפסיכומטרי מתפלגים נורמאלית עם סטיית תקן 100. במדגם של 16 נבחנים חיילים התקבל ממוצע 543. במדגם של 20 תלמידי תיכון התקבל ממוצע 508. בנו רווח סמך לפער תוחלות הציונים בין חיילים לתלמידי תיכון ברמת סמך של 90%. מה ניתן להסיק מרווח סמך זה?
- (2) ציוני IQ מתוכננים כך שיתפלגו נורמאלית עם סטיית תקן של 15. במדגם של 20 נבחנים ישראלים התקבל ממוצע ציונים 104. במדגם של 23 נבחנים אמריקאיים התקבל ממוצע ציונים 99.  
 א. בנו רווח סמך ברמת סמך של 95% לפער בין ישראל לארה"ב בממוצע הציונים במבחן ה-IQ.  
 ב. האם קיים הבדל בין ישראלים לאמריקאים מבחינת ממוצע הציונים?
- (3) חברה להנדסת בניין מעוניינת להשוות ברמת הקשיות של שני סוגי ברגים. ידוע שרמת הקשיות של ברגים מתפלגת נורמלית עם סטיית תקן של 4 יחידות. במדגם של 15 ברגים מסוג א' התקבל רמת קשיות ממוצעת של 28 יחידות ובמדגם של 12 ברגים מסוג ב' התקבל רמת קשיות ממוצעת של 25. עבור אילו רמות בטחון יקבע שאין הבדל בין שני סוגי הברגים מבחינת ממוצע רמת הקשיות שלהם?

## תשובות סופיות:

- (1)  $(-20, 90)$ .
- (2) א.  $-3.99 < \mu_1 - \mu_2 < 13.99$ .  
 ב. לא נוכל לטעון בביטחון של 95% שקיים הבדל בין ישראל לארה"ב.  
 (3) רמות בטחון הגבוהות מ-0.9476.

## כששונויות האוכלוסייה לא ידועות ובהנחת שוויון שונויות:

### רקע:

המטרה היא לאמוד את פער התוחלות:  $\mu_1 - \mu_2$ , כלומר ההבדלים של הממוצעים בין שתי האוכלוסיות.

האומד נקודתי:  $\bar{x}_1 - \bar{x}_2$ .

התנאים לבניית רווח הסמך:

$$1. \sigma_1^2 = \sigma_2^2$$

$$2. X_1, X_2 \sim N$$

3. מדגמים בלתי תלויים.

השונויות המשוקללת: כיוון שאנו מניחים שבין שתי האוכלוסיות השונויות שוות אנו אומדים את השונויות הזו על ידי שקלול שתי השונויות של שני המדגמים על ידי

$$S_p^2 = \frac{(n_1 - 1)S_1^2 + (n_2 - 1)S_2^2}{n_1 + n_2 - 2}$$

הנוסחה הבאה:

$$d.f = n_1 + n_2 - 2$$

דרגות החופש:

$$\text{רווח סמך: } (\bar{x}_1 - \bar{x}_2) \pm t_{\frac{1-\alpha}{2}}^{n_1+n_2-2} \cdot \sqrt{\frac{S_p^2}{n_1} + \frac{S_p^2}{n_2}}$$

אם הערך אפס נופל בגבולות רווח הסמך נגיד שבביטחון של  $1 - \alpha$ , לא קיים הבדל בין התוחלות.

### דוגמה (פתרון בהקלטה):

מחקר מעוניין לבדוק האם קיים הבדל בין תל אביב לבאר שבע מבחינת ההכנסה הממוצעת של אקדמאים. להלן תוצאות המדגם שנעשה:

באר שבע	תל אביב	
10	20	מספר האקדמאים
9500	11,000	ממוצע הכנסות של אקדמאים
250	200	סטיית התקן של הכנסות אקדמאים

בנו רווח סמך ברמת ביטחון של 90% להפרש תוחלות ההכנסה בשני האזורים. הניחו שהשכר מתפלג נורמלית עם אותה שונות בכל אחד מהאזורים.

## שאלות:

- (1) נדגמו 15 ישראלים ו-15 אמריקאים. כל הנדגמים נגשו למבחן IQ. להלן תוצאות המדגם:

המדינה	ישראל	ארה"ב
גודל המדגם	15	15
סכום הציונים	1560	1470
סכום ריבועי הציונים	165,390	147,560

מצאו רווח סמך ברמת סמך של 95% לסטייה בין ממוצע הציונים בישראל לממוצע הציונים בארה"ב. רשמו את כל ההנחות הדרושות לצורך פתרון התרגיל.

- (2) להלן 4 תצפיות על משתנה  $X$  שמתפלג:  $N(\mu_x, \sigma^2)$ , ומשתנה  $Y$  שמתפלג:  $N(\mu_y, \sigma^2)$ .

X	22	20	21	25
Y	18	25	17	12

חשבו רווח סמך ל- $\mu_y - \mu_x$  ברמת הסמך 90%, בהנחה ששני המדגמים בלתי תלויים.

## תשובות סופיות:

- (1) הנחות:
- השונויות שווה.
  - שהציונים מתפלגים נורמלית.
  - המדגמים אינם תלויים זה בזה.
- $$-5.52 < \mu_1 - \mu_2 < 17.52$$
- (2)
- $$-9.6 < \mu_y - \mu_x < 1.6$$

# מבוא לסטטיסטיקה

פרק 20 - רווח סמך לתוחלת (ממוצע) הפרשים במדגמים מזווגים

תוכן העניינים

1. רווח סמך לתוחלת (ממוצע) הפרשים במדגמים מזווגים ..... 95

## רווח סמך לתוחלת (ממוצע) ההפרשים במדגמים מזווגים:

### רקע:

**מדגם מזווג:** מדגם אחד שבו יש  $n$  צמדדים. כל תצפית במדגם תנפק זוג ערכים:  $X$  ו- $Y$ .

ניצור משתנה חדש:  $D = x - y$ .

הפרמטר שנרצה לאמוד:  $\mu_D$ .

התנאים לבניית רווח הסמך:

1.  $x, y \sim N$ .

2. המדגם מזווג.

נוסחת רווח הסמך:  $\bar{D} \pm t_{1-\frac{\alpha}{2}}^{n-1} \frac{S_D}{\sqrt{n}}$ .

כאשר דרגות החופש:  $df = n - 1$ .

### דוגמה (פתרון בהקלטה):

מעוניינים לבדוק האם יש הבדל בין מהירות הריצות של שתי תוכנות מחשב. לקחו 5 קבצים אקראיים והריצו אותם בשתי התוכנות:

5	4	3	2	1	הקובץ
38	46	49	48	25	הזמן בתוכנה הראשונה
48	40	42	46	27	הזמן בתוכנה השנייה

הניחו כי זמני הריצות מתפלגים נורמלית. מצאו רווח סמך של 95% להפרש תוחלת הזמן בין שתי התוכנות.

## שאלות:

- (1) נדגמו 5 סטודנטים שסיימו את הקורס סטטיסטיקה ב'. להלן הציונים בסמסטר א' ו-ב':

82	75	90	68	74	סמסטר א'
100	76	87	84	80	סמסטר ב'

נניח שהציונים מתפלגים נורמאלית.

- א. בנו רווח סמך ברמת סמך של 95% לתוחלת פער הציונים בין סמסטר א' לבין סמסטר ב'.
- ב. האם על סמך רווח הסמך קיים הבדל בין הסמסטרים מבחינת תוחלת הציונים?
- ג. מה צריך לשנות בנתונים כדי שהמדגמים יהיו בלתי תלויים?
- (2) במטרה לבדוק האם קיים הבדל בין קווי זהב לבזק מבחינת ממוצע המחירים לשיחות בינ"ל. נדגמו באקראי 7 מדינות ועבור כל מדינה נבדקה עלות דקת שיחה. להלן התוצאות:

חברה/ מדינה	ארה"ב	קנדה	הולנד	פולין	מצרים	סין	יפן
בזק - X	1.5	2.1	2.2	3	3.5	3.2	4.2
קווי זהב - Y	1.4	2	1.9	3.1	3.3	3.2	4.2

בהנחה והמחירים מתפלגים נורמלית עבור כל חברה, בנו רווח סמך ברמת סמך של 90% לתוחלת הפרש המחירים של שתי החברות.

## תשובות סופיות:

- (1) א.  $-19 < \mu_0 < 38$ . ב. בביטחון של 95% לא קיים הבדל. ג. ראה הסבר בסרטון.
- (2)  $-0.013 < \mu < 0.185$ .

# מבוא לסטטיסטיקה

פרק 21 - רווח סמך לשונות וסטיית תקן

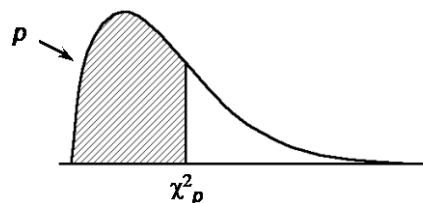
תוכן העניינים

1. רווח סמך לשונות וסטיית תקן.....97

## רווח סמך לשונות וסטיית תקן:

### רקע:

בפרק זה נדון על בניית רווח סמך לשונות האוכלוסייה. התנאי לבניית רווח הסמך: המשתנה הנחקר מתפלג נורמלית, למרות שנהוג לא לדרוש את התנאי הזה אם המדגם מספיק גדול. רווח הסמך יתבסס על התפלגות הנקראת חי בריבוע. התפלגות זו היא התפלגות אסימטרית חיובית המתחילה מהערך אפס ותלויה בדרגות חופש. דרגות החופש במקרה זה יהיו:  $n-1$ .



$$\text{רווח הסמך לשונות: } \frac{(n-1)S^2}{\chi^2_{1-\frac{\alpha}{2}, n-1}} \leq \sigma^2 \leq \frac{(n-1)S^2}{\chi^2_{\frac{\alpha}{2}, n-1}}$$

$$\text{כאשר: } S^2 = \frac{\sum_{i=1}^n (X_i - \bar{X})^2}{n-1} = \frac{\sum_{i=1}^n X_i^2 - n \cdot \bar{X}^2}{n-1}$$

אם נרצה לבנות רווח סמך לסטיית תקן אז נוציא שורש לרווח סמך לשונות.

### דוגמה:

זמן התגובה מתפלג נורמלית. במטרה לאמוד את שונות זמן התגובה נדגמו 4 תצפיות. להלן התוצאות בשניות: 4.7, 5.2, 4.6, 5.3. בנו רווח סמך, ברמת סמך של 95%, לשונות זמן התגובה באוכלוסייה.

פתרון:

פרמטר:  $\sigma^2$ .

$$X \sim N(\mu, \sigma^2) = \text{זמן תגובה (בשניות)}$$

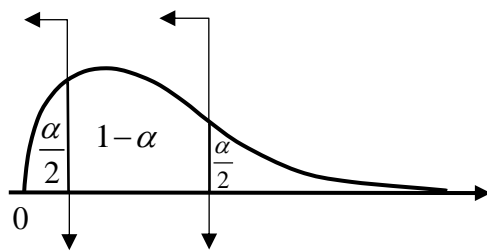
תוצאות מדגם:  $n = 4$ .

$$\bar{X} = \frac{4.7+5.2+4.6+5.3}{4} = 4.95$$

$$d.f = n-1 = 4-1 = 3$$

$$S^2 = \frac{\sum_{i=1}^n (X_i - \bar{X})^2}{n-1} = \frac{\sum_{i=1}^n X_i^2 - n \cdot \bar{X}^2}{n-1} \quad \text{נציב:}$$

$$S^2 = \frac{4.7^2 + 5.2^2 + \dots - 4 \cdot 4.95^2}{4-1} = 0.123$$



$$X^2_{0.025} = 0.216 \quad X^2_{0.975} = 9.35$$

$$1 - \alpha = 0.95$$

$$\alpha = 0.05$$

$$\frac{\alpha}{2} = 0.025$$

(טבלת התפלגות חי-בריבוע מופיעה בעמוד האחרון).

$$\frac{(n-1)S^2}{\chi^2_{1-\frac{\alpha}{2}, n-1}} \leq \sigma^2 \leq \frac{(n-1)S^2}{\chi^2_{\frac{\alpha}{2}, n-1}} \quad \text{נציב:}$$

$$\frac{(4-1) \cdot 0.123}{9.35} < \sigma^2 < \frac{(4-1) \cdot 0.123}{0.216}$$

$$0.039 < \sigma^2 < 1.708$$

## שאלות:

(1) חמישה מטופלים קבלו תרופה מסוימת. בדקו לכל מטופל את זמני התגובה שלו. להלן הזמנים שהתקבלו בדקות: 18, 17, 21, 26, 28. בהנחה וזמני התגובה מתפלגים נורמאלית, בנו רווח סמך ברמת סמך של 95% לשונות זמן התגובה.

(2) נדגמו 20 ימים אקראיים מחודשי יולי-אוגוסט ונמדדה בהם הטמפי במעלות צלזיוס בת"א. במדגם התקבל טמפי ממוצעת 30.8 וסטיית תקן מדגמית 1.1. בהנחה והטמפי מתפלגת נורמאלית:

א. בנו רווח סמך לתוחלת הטמפי בחודשים אלה בת"א ברמת סמך של 95%.

ב. בנו רווח סמך לסטיית התקן של הטמפי בחודשים אלה בת"א ברמת סמך של 95%.

(3) ציוני IQ בארה"ב מתפלגים נורמאלית עם ממוצע 100 וסטיית תקן 15. נבחנו 20 נבחנים ישראלים במבחן ה-IQ.

$$\sum_{i=1}^{20} X_i = 2080, \quad \sum_{i=1}^{20} X_i^2 = 218,220$$

להלן התוצאות שהתקבלו:

נניח שגם בישראל הציונים מתפלגים נורמאלית.

- א. מצאו אומדנים לממוצע הציונים בישראל ולשונות הציונים בישראל באמצעות אומדנים חסרי הטיה.
- ב. אמדו ברמת ביטחון של 95% את תוחלת הציונים של נבחנים בישראל.
- ג. אמדו ברמת סמך של 90% את סטיית התקן של הציונים של נבחנים ישראלים.
- ד. על סמך הסעיפים הקודמים, האם בישראל ממוצע הציונים וסטיית התקן של הציונים שונה מבארה"ב? הסבירו.

(4) באוכלוסייה מסוימת נדגמו 10 תצפיות והתקבלו התוצאות הבאות:

$$\sum_{i=1}^{10} X_i = 750, \quad \sum_{i=1}^{10} (X_i - \bar{X})^2 = 900$$

$$X_i \sim N(\mu, \sigma^2)$$

נתון ש:

- א. בנו רווח סמך ל- $\mu$  ברמת סמך של 95%.
- ב. בנו רווח סמך ל- $\sigma^2$  ברמת סמך של 95%.

### תשובות סופיות:

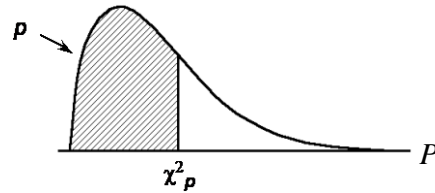
$$(1) \quad .8.4 < \sigma^2 < 194.2$$

$$(2) \quad \text{א. } .30.285 < \mu < 31.315 \quad \text{ב. } .0.836 < \sigma < 1.606$$

$$(3) \quad \text{א. ממוצע: } 104, \text{ שונות: } 100. \quad \text{ב. } .99.32 \leq \mu \leq 108.68 \quad \text{ג. } .7.94 < \sigma < 13.7$$

ד. בביטחון של 95% ממוצע הציונים איננו שונה, ובביטחון של 90% סטיית התקן שונה.

$$(4) \quad \text{א. } .68.75 < \mu < 82.15 \quad \text{ב. } .47.4 < \sigma^2 < 333.3$$

**נספח - טבלת התפלגות חי-בריבוע – ערכי החלוקה  $\chi^2_p$  :**


df	.005	.01	.025	.05	.10	.25	.50	.75	.90	.95	.975	.99	.995
1	0.004393	0.005399	0.007879	0.013503	0.020001	0.037467	0.054129	0.102430	0.138009	0.154919	0.175347	0.196751	0.214764
2	0.010000	0.020000	0.050000	0.103823	0.214778	0.352729	0.477901	0.710681	0.900293	1.024703	1.162778	1.312248	1.479854
3	0.071714	0.115777	0.216447	0.352729	0.584394	0.878778	1.212760	1.753546	2.365777	2.834715	3.219728	3.579544	3.919522
4	0.207161	0.297186	0.484418	0.711162	1.064494	1.520696	2.000133	2.700389	3.438122	4.108408	4.713122	5.348154	5.988622
5	0.411543	0.554267	0.831413	1.154822	1.610738	2.202774	2.964556	3.848137	4.751863	5.621378	6.388854	7.287872	8.235747
6	0.675650	0.872226	1.236778	1.635309	2.204130	2.964556	3.918845	5.023890	6.167861	7.231697	8.235747	9.347827	10.598798
7	0.989266	1.239831	1.690865	2.179003	2.833059	3.827756	5.023890	6.344544	7.779330	9.347827	11.030844	12.838159	14.799544
8	1.344296	1.650031	2.179003	2.732637	3.490055	4.605319	6.167861	7.779330	9.524517	11.327668	13.121430	15.013273	17.534548
9	1.734724	2.093024	2.700108	3.337133	4.167557	5.348154	7.162620	8.932762	10.916582	13.020937	15.491911	18.475270	21.920800
10	2.169905	2.558233	3.246373	3.940347	4.865152	6.167557	8.162620	10.178138	12.591644	15.086252	17.534548	20.483177	25.188136
11	2.602521	3.052709	3.827756	4.575819	5.578497	7.162620	9.347827	11.327668	14.017015	16.919080	19.678054	22.759719	26.756848
12	3.076473	3.571796	4.401544	5.228998	6.302131	8.162620	10.598798	12.591644	15.188136	18.307037	21.029216	24.154262	28.304240
13	3.571796	4.111425	5.010804	5.891911	7.041498	9.347827	11.978138	13.800535	16.678054	19.678054	22.364262	25.523798	29.819522
14	4.077714	4.669905	5.635309	6.571333	7.790055	10.243024	13.277557	15.188136	18.475270	21.067161	23.684715	26.893159	31.316960
15	4.602521	5.235709	6.266373	7.266373	8.551331	11.140696	14.838137	16.750133	20.000133	22.307161	25.000133	28.304262	32.801336
16	5.144296	5.811425	6.911425	7.964556	9.311425	12.000133	16.750133	18.562620	21.787557	24.000133	26.756848	30.191430	34.266960
17	5.702521	6.411425	7.569905	8.671331	10.111425	12.838136	18.475270	20.598798	23.591644	26.591644	28.591644	31.577161	35.716960
18	6.269905	7.011425	8.235309	9.390055	10.990055	13.740696	19.777557	22.162620	25.188136	28.162620	30.191430	33.407161	37.156960
19	6.844296	7.631425	8.911425	10.111425	11.771331	14.640696	21.311425	23.777557	26.756848	29.716144	31.777161	34.777161	38.586960
20	7.431425	8.269905	9.591425	10.916582	12.440696	15.535309	22.777557	25.591644	28.438136	31.438136	33.407161	36.191430	40.000133
21	8.031425	8.909905	10.311425	11.669905	13.211425	16.430696	24.438136	27.591644	30.191430	32.777161	35.191430	37.591644	41.438136
22	8.644296	9.549905	11.069905	12.440696	14.000133	17.330696	26.438136	29.638136	32.000133	34.162620	36.777161	39.000133	42.877161
23	9.269905	10.211425	11.771331	13.140696	14.811425	18.240696	28.438136	31.591644	33.216144	35.438136	38.162620	40.438136	44.266960
24	9.899905	10.911425	12.440696	13.871331	15.640696	19.160696	30.438136	33.438136	34.777161	36.777161	39.438136	41.916144	45.647161
25	10.531425	11.631425	13.140696	14.630696	16.500133	20.090696	32.438136	35.438136	36.438136	38.162620	40.638136	43.377161	46.991430
26	11.171425	12.371425	13.871331	15.411425	17.390696	21.040696	34.438136	37.438136	38.162620	39.777161	41.916144	44.777161	48.347161
27	11.819905	13.131425	14.630696	16.211425	18.311425	22.000133	36.438136	38.438136	40.162620	41.162620	43.216144	46.162620	49.691430
28	12.477161	13.911425	15.430696	16.990696	19.260696	23.000133	38.438136	39.438136	41.377161	42.438136	44.591644	47.591644	51.047161
29	13.144296	14.711425	16.260696	17.771331	20.240696	24.040696	40.438136	40.777161	42.638136	43.777161	45.916144	48.916144	52.391430
30	13.819905	15.531425	17.111425	18.571331	21.260696	25.111425	42.438136	42.162620	43.877161	45.000133	47.216144	50.216144	53.747161

# מבוא לסטטיסטיקה

פרק 22 - רווח סמך ליחס שונויות

תוכן העניינים

102 .....1. רווח סמך ליחס שונויות.

## רווח סמך ליחס שונויות:

### רקע:

נרצה לאמוד את ההבדל בין שתי שונויות משתי אוכלוסיות שונות.

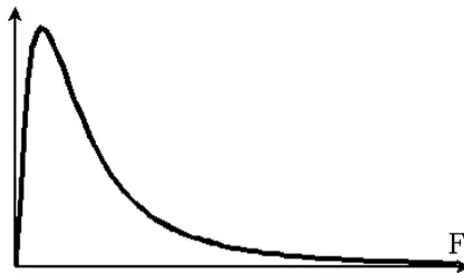
הפרמטר יהיה:  $\frac{\sigma_1^2}{\sigma_2^2}$ : כלומר היחס בין השונויות.

התנאים:

•  $X_1, X_2 \sim N$  או מדגמים גדולים.

• מדגמים בלתי תלויים.

רווח הסמך יבנה על סמך התפלגות הנקראת התפלגות F. התפלגות זו היא אסימטרית חיובית ומושפעת משתי דרגות החופש, זו של המונה וזו של המכנה.



$$df_1 = n_1 - 1$$

$$df_2 = n_2 - 1$$

רווח הסמך יהיה:  $\frac{s_1^2}{s_2^2} \frac{1}{F_{1-\frac{\alpha}{2}}(n_1-1, n_2-1)} \leq \frac{\sigma_1^2}{\sigma_2^2} \leq \frac{s_1^2}{s_2^2} F_{1-\frac{\alpha}{2}}(n_2-1, n_1-1)$

### דוגמה (פתרון בהקלטה):

מחקר סוציולוגי מעוניין לחקור את הרגלי הבילויים בקבוצות גיל שונות: במדגם שנעשה על סטודנטים בגילאי 21-26 התקבל אומד חוסר הטיה לשונות ההוצאה החודשית על בילויים 10,000. כמות הסטודנטים שנדגמו 16. במדגם שנעשה על 11 מבוגרים בשנות השלושים התקבל אומד חסר הטיה לשונות ההוצאה החודשית על בילויים 490,000. נניח שההוצאה החודשית לבילוי בכל קבוצת גיל מתפלג נורמאלית. בנו רווח סמך ברמת סמך של 95% ליחס בין השונויות.

## שאלות:

- (1) בתחום הבינוי משתמשים בשני סוגי מתכות: מתכת A ומתכת B. מחקר מעוניין לבדוק האם קיים הבדל בין שני סוגי המתכות מבחינת שוונות החוזק שלהן. דגמו מספר יחידות מתכת מכל סוג והתקבלו התוצאות הבאות:

B	A	סוג המתכת
10	8	$N$
30	16	$\sum X_i$
198	60	$\sum X_i^2$

- יש להניח שרמת החוזק של המתכות מתפלגת נורמאלית.
- א. בנו רווח סמך ליחס השונויות של רמות החוזק בין שני סוגי המתכות ברמת סמך של 90%.
- ב. בנו רווח סמך ליחס סטיות התקן של רמות החוזק בין שני סוגי המתכות ברמת סמך של 90%.

- (2) מעוניינים להשוות בין נשים וגברים מבחינת השוונות בזמנים שלהם לבצע משימה מסוימת. במדגם של 10 גברים התקבלו התוצאות הבאות לגבי זמני ביצוע המשימה:  $\sum (y_i - \bar{y})^2 = 204$ . במדגם של 13 נשים התקבלו התוצאות הבאות:  $\sum (x_i - \bar{x})^2 = 200$ .
- אמוד ברמת ביטחון של 95% פי כמה גדולה השוונות של הגברים באוכלוסייה מהשוונות של הנשים.
- מה יש להניח לצורך פתרון?

## תשובות סופיות:

$$(1) \quad \text{א. } 0.1013 < \frac{\sigma_A^2}{\sigma_B^2} < 1.2267 \quad \text{ב. } 0.318 < \frac{\sigma_A}{\sigma_B} < 1.108$$

$$(2) \quad 0.39 \leq \frac{\sigma_m^2}{\sigma_F^2} \leq 5.26$$

טבלת התפלגות  $F$ . לפי זנב ימני של  $\alpha$ 

		$df.1.$											
$\alpha$	$df.2$	1	2	3	4	5	6	7	8	9	10	12	15
.05	1	161	200	216	225	230	234	237	239	241	242	244	246
.025		648	800	864	900	922	937	948	957	963	969	977	985
.01		4052	5000	5403	5625	5764	5859	5928	5981	6022	6056	6106	6157
.005		16211	20000	21615	22500	23056	23437	23715	23925	24091	24224	24426	24630
.05	2	18.51	19.00	19.16	19.25	19.30	19.33	19.35	19.37	19.38	19.40	19.41	19.43
.025		38.51	39.00	39.17	39.25	39.30	39.33	39.36	39.37	39.39	39.40	39.41	39.43
.01		98.50	99.00	99.16	99.25	99.30	99.33	99.36	99.38	99.39	99.40	99.42	99.43
.005		198.50	199.01	199.16	199.24	199.30	199.33	199.36	199.38	199.39	199.39	199.42	199.43
.05	3	10.13	9.55	9.28	9.12	9.01	8.94	8.89	8.85	8.81	8.79	8.74	8.70
.025		17.44	16.04	15.44	15.10	14.88	14.73	14.62	14.54	14.47	14.42	14.34	14.25
.01		34.12	30.82	29.46	28.71	28.24	27.91	27.67	27.49	27.34	27.23	27.05	26.87
.005		55.55	49.80	47.47	46.20	45.39	44.84	44.43	44.13	43.88	43.68	43.39	43.08
.05	4	7.71	6.94	6.59	6.39	6.26	6.16	6.09	6.04	6.00	5.96	5.91	5.86
.025		12.22	10.65	9.98	9.60	9.36	9.20	9.07	8.98	8.90	8.84	8.75	8.66
.01		21.20	18.00	16.69	15.98	15.52	15.21	14.98	14.80	14.66	14.55	14.37	14.20
.005		31.33	26.28	24.26	23.15	22.46	21.98	21.62	21.35	21.14	20.97	20.70	20.44
.05	5	6.61	5.79	5.41	5.19	5.05	4.95	4.88	4.82	4.77	4.74	4.68	4.62
.025		10.01	8.43	7.76	7.39	7.15	6.98	6.85	6.76	6.68	6.62	6.52	6.43
.01		16.26	13.27	12.06	11.39	10.97	10.67	10.46	10.29	10.16	10.05	9.89	9.72
.005		22.78	18.31	16.53	15.56	14.94	14.51	14.20	13.96	13.77	13.62	13.38	13.15
.05	6	5.99	5.14	4.76	4.53	4.39	4.28	4.21	4.15	4.10	4.06	4.00	3.94
.025		8.81	7.26	6.60	6.23	5.99	5.82	5.70	5.60	5.52	5.46	5.37	5.27
.01		13.75	10.92	9.78	9.15	8.75	8.47	8.26	8.10	7.98	7.87	7.72	7.56
.005		18.63	14.54	12.92	12.03	11.46	11.07	10.79	10.57	10.39	10.25	10.03	9.81
.05	7	5.59	4.74	4.35	4.12	3.97	3.87	3.79	3.73	3.68	3.64	3.57	3.51
.025		8.07	6.54	5.89	5.52	5.29	5.12	4.99	4.90	4.82	4.76	4.67	4.57
.01		12.25	9.55	8.45	7.85	7.46	7.19	6.99	6.84	6.72	6.62	6.47	6.31
.005		16.24	12.40	10.88	10.05	9.52	9.16	8.89	8.68	8.51	8.38	8.18	7.97
.05	8	5.32	4.46	4.07	3.84	3.69	3.58	3.50	3.44	3.39	3.35	3.28	3.22
.025		7.57	6.06	5.42	5.05	4.82	4.65	4.53	4.43	4.36	4.30	4.20	4.10
.01		11.26	8.65	7.59	7.01	6.63	6.37	6.18	6.03	5.91	5.81	5.67	5.52
.005		14.69	11.04	9.60	8.81	8.30	7.95	7.69	7.50	7.34	7.21	7.01	6.81

		<i>d.f.1.</i>											
$\alpha$	<i>d.f.2.</i>	1	2	3	4	5	6	7	8	9	10	12	15
.05	9	5.12	4.26	3.86	3.63	3.48	3.37	3.29	3.23	3.18	3.14	3.07	3.01
.025		7.21	5.71	5.08	4.72	4.48	4.32	4.20	4.10	4.03	3.96	3.87	3.77
.01		10.56	8.02	6.99	6.42	6.06	5.80	5.61	5.47	5.35	5.26	5.11	4.96
.005		13.61	10.11	8.72	7.96	7.47	7.13	6.88	6.69	6.54	6.42	6.23	6.03
.05	10	4.96	4.10	3.71	3.48	3.33	3.22	3.14	3.07	3.02	2.98	2.91	2.85
.025		6.94	5.46	4.83	4.47	4.24	4.07	3.95	3.85	3.78	3.72	3.62	3.52
.01		10.04	7.56	6.55	5.99	5.64	5.39	5.20	5.06	4.94	4.85	4.71	4.56
.005		12.83	9.43	8.08	7.34	6.87	6.54	6.30	6.12	5.97	5.85	5.66	5.47
.05	12	4.75	3.89	3.49	3.26	3.11	3.00	2.91	2.85	2.80	2.75	2.69	2.62
.025		6.55	5.10	4.47	4.12	3.89	3.73	3.61	3.51	3.44	3.37	3.28	3.18
.01		9.33	6.93	5.95	5.41	5.06	4.82	4.64	4.50	4.39	4.30	4.16	4.01
.005		11.75	8.51	7.23	6.52	6.07	5.76	5.52	5.35	5.20	5.09	4.91	4.72
.05	15	4.54	3.68	3.29	3.06	2.90	2.79	2.71	2.64	2.59	2.54	2.48	2.40
.025		6.20	4.77	4.15	3.80	3.58	3.41	3.29	3.20	3.12	3.06	2.96	2.86
.01		8.68	6.36	5.42	4.89	4.56	4.32	4.14	4.00	3.89	3.80	3.67	3.52
.005		10.80	7.70	6.48	5.80	5.37	5.07	4.85	4.67	4.54	4.42	4.25	4.07
.05	20	4.35	3.49	3.10	2.87	2.71	2.60	2.51	2.45	2.39	2.35	2.28	2.20
.025		5.87	4.46	3.86	3.51	3.29	3.13	3.01	2.91	2.84	2.77	2.68	2.57
.01		8.10	5.85	4.94	4.43	4.10	3.87	3.70	3.56	3.46	3.37	3.23	3.09
.005		9.94	6.99	5.82	5.17	4.76	4.47	4.26	4.09	3.96	3.85	3.68	3.50
.05	30	4.17	3.32	2.92	2.69	2.53	2.42	2.33	2.27	2.21	2.16	2.09	2.01
.025		5.57	4.18	3.59	3.25	3.03	2.87	2.75	2.65	2.57	2.51	2.41	2.31
.01		7.56	5.39	4.51	4.02	3.70	3.47	3.30	3.17	3.07	2.98	2.84	2.70
.005		9.18	6.35	5.24	4.62	4.23	3.95	3.74	3.58	3.45	3.34	3.18	3.01
.05	60	4.00	3.15	2.76	2.53	2.37	2.25	2.17	2.10	2.04	1.99	1.92	1.84
.025		5.29	3.93	3.34	3.01	2.79	2.63	2.51	2.41	2.33	2.27	2.17	2.06
.01		7.08	4.98	4.13	3.65	3.34	3.12	2.95	2.82	2.72	2.63	2.50	2.35
.005		8.49	5.79	4.73	4.14	3.76	3.49	3.29	3.13	3.01	2.90	2.74	2.57
.05	120	3.92	3.07	2.68	2.45	2.29	2.18	2.09	2.02	1.96	1.91	1.83	1.75
.025		5.15	3.80	3.23	2.89	2.67	2.52	2.39	2.30	2.22	2.16	2.05	1.94
.01		6.85	4.79	3.95	3.48	3.17	2.96	2.79	2.66	2.56	2.47	2.34	2.19
.005		8.18	5.54	4.50	3.92	3.55	3.28	3.09	2.93	2.81	2.71	2.54	2.37
.05	$\infty$	3.84	3.00	2.60	2.37	2.21	2.10	2.01	1.94	1.88	1.83	1.75	1.67
.025		5.02	3.69	3.12	2.79	2.57	2.41	2.29	2.19	2.11	2.05	1.94	1.83
.01		6.63	4.61	3.78	3.32	3.02	2.80	2.64	2.51	2.41	2.32	2.18	2.04
.005		7.88	5.30	4.28	3.72	3.35	3.09	2.90	2.74	2.62	2.52	2.36	2.19

# מבוא לסטטיסטיקה

פרק 23 - שאלות מסכמות על רווחי סמך

תוכן העניינים

1. שאלות מסכמות על רווחי סמך ..... 106

## שאלות מסכמות על רווחי סמך:

### שאלות:

- (1) מהירות הגלישה באינטרנט במקום מסוים מתפלגת נורמאלית. בדקו את מהירות הגלישה ב-30 זמנים אקראיים. מהירות הגלישה נמדדה ב-Mbps. מהירות מתחת ל-10Mbps מוגדרת על ידי החברה כנמוכה. התוצאות שהתקבלו במדגם: ממוצע היה 87 עם סטיית תקן 17 ו-12 פעמים המהירות הייתה נמוכה. בנו רווחי סמך ברמת סמך של 95% לפרמטרים הבאים:
- תוחלת מהירות הגלישה.
  - סטיית תקן של מהירות הגלישה.
  - הסיכוי שמהירות הגלישה תהיה נמוכה.
- (2) 200 אנשים נשאלו כמה פעמים ביום הם שותים כוס קפה. להלן התפלגות התשובות:

5	4	3	2	1	0	מספר פעמים
10	20	22	28	34	86	מספר אנשים

- תנו רווח סמך לממוצע מספר כוסות הקפה שאנשים נוהגים לשתות ביום.  $\alpha = 0.05$ .
  - אדם השותה לפחות 4 כוסות קפה ביום נקרא "מכור לקפה". בנו רווח סמך לאחוז "המכורים לקפה".  $\alpha = 0.1$ .
- (3) חוקר בנה רווח סמך לאחוז האנשים שהתקררו לפחות פעם אחת בשנה. רווח הסמך שהתקבל הוא:  $81 < p < 91$ . רווח הסמך הני"ל התבסס על מדגם של 500 איש.
- כמה אנשים במדגם טענו שכלל לא התקררו השנה?
  - באיזו רמת סמך נבנה רווח הסמך?
  - בנו רווח סמך לאחוז האנשים שהתקררו לפחות פעם אחת השנה ברמת סמך של 96% על סמך תוצאות המדגם.

- (4) ציוני IQ בארה"ב מתפלגים נורמאלית עם תוחלת 100. במדגם של 20 ישראלים שנבחנו במבחן ה-IQ התקבלו התוצאות הבאות:

$$\sum_{i=1}^{20} x_i = 2040, \quad \sum_{i=1}^{20} x_i^2 = 210740$$

- א. אמדו ברמת ביטחון של 90% את ממוצע ציוני בחינת ה-IQ בישראל – מהי ההנחה הדרושה לפתרון?  
 ב. על סמך רווח הסמך של סעיף א' האם תקבלו את הטענה שבישראל ממוצע הציונים שונה מארה"ב?  
 ג. מה היה קורה לרווח הסמך אם היינו מגדילים את רמת הסמך שלו?

- (6) הגובה של מתגייסים לצה"ל מתפלג נורמלית במדגם של 25 מתגייסים.

$$\sum (x_i - \bar{x})^2 = 2832 \text{cm}^2, \quad \bar{x} = 176.2 \text{cm}$$

- א. אמדו את הגובה הממוצע של המתגייסים ברמת סמך של 98%.  
 ב. אמדו ברמת סמך של 90% את סטיית התקן של הגובה של מתגייסים של צה"ל.

- (7) בנק מתלבט האם לפתוח סניף באזור A או באזור B. לצורך פתרון נניח שסטיית התקן של המשכורת באזור A היא 1200 ובאזור B 1500. הבנק דגם 50 אנשים מאזור A, המשכורת הממוצעת שהתקבלה במדגם היא 6,800 ₪. כמו כן, נדגמו 40 אנשים מאזור B, המשכורת הממוצעת שהתקבלה במדגם היא 6,600 ₪.

- א. בנו רווח סמך ברמת סמך של 95% להפרש הממוצעים של המשכורות בשני האזורים. האם על סמך רווח הסמך ניתן להמליץ לבנק היכן לפתוח את הסניף. אם כן, היכן?  
 ב. בנו רווח סמך לתוחלת המשכורת באזור A ברמת סמך של 95%.

- (8) להלן מדגם של שכר הדירה ב-₪ של 5 דירות שלושה חדרים בשכונת בבלי בתל אביב:

7500	6500	7000	7500	8000	שנת 2012
7700	6800	7800	8200	8000	שנת 2013

- בנו רווח סמך ברמת סמך של 95% לתוחלת עליית שכר הדירה משנת 2012 לשנת 2013 בשכונת בבלי. ניתן להניח ששכר הדירה בשכונה מתפלג נורמלית.

**תשובות סופיות:**

- (1) א.  $80.65 \leq \mu \leq 93.35$     ב.  $13.5 < \sigma < 22.9$     ג.  $0.225 \leq p \leq 0.575$
- (2) א.  $1.21 \leq \mu \leq 1.65$     ב.  $10.85\% \leq p \leq 19.15\%$
- (3) א. 70    ב. 0.9988    ג.  $83\% < p < 89\%$
- (4) א.  $97.4 \leq \mu \leq 106.6$     ב. לא    ג. יגדל.
- (6) א.  $170.8 \leq \mu \leq 181.6$     ב.  $8.8 \leq \sigma \leq 14.3$
- (7) א.  $-372 \leq \mu_A - \mu_B \leq 772$ , לא    ב.  $6467 \leq \mu_A \leq 7133$
- (8)  $-21 \leq \mu_D \leq 821$

# מבוא לסטטיסטיקה

פרק 24 - מבוא לבדיקת השערות על פרמטרים

תוכן העניינים

109	.....	1. הקדמה
113	.....	2. סוגי טעויות

## הקדמה:

### רקע:

תהליך של בדיקת השערות הוא תהליך מאד נפוץ בעולם הסטטיסטיקה. בבדיקת השערות על פרמטרים נעבוד לפי השלבים הבאים:

**שלב א:** נוהה את הפרמטר הנחקר.

**שלב ב:** נרשום את השערות המחקר.

השערת האפס המסומנות ב- $H_0$ .

בדרך כלל השערת האפס מסמלת את אשר היה מקובל עד עכשיו, את השגרה, הנורמה.

השערה אלטרנטיבית (השערת המחקר) המסומנת ב- $H_1$ .

ההשערה האלטרנטיבית מסמלת את החדשנות בעצם ההשערה האלטרנטיבית מדברת על הסיבה שהמחקר נעשה היא שאלת המחקר.

**שלב ג:** נבדוק האם התנאים לביצוע התהליך מתקיימים ונניח הנחות במידת הצורך.

**שלב ד:** נרשום את כלל ההכרעה. בתהליך של בדיקת השערות יוצרים כלל שנקרא כלל הכרעה. הכלל יוצר אזורי שנקראים:

1. **אזור דחייה:**

דחייה של השערת האפס כלומר קבלה של האלטרנטיבה.

2. **אזור קבלה:**

קבלה של השערת האפס ודחייה של האלטרנטיבה. כלל ההכרעה מתבסס על איזשהו סטטיסטי. אזור הדחייה מוכתב על ידי סיכון שלוקח החוקר מראש

שנקרא רמת מובהקות ומסומן ב- $\alpha$ .

**שלב ה:** בתהליך יש ללכת לתוצאות המדגם ולחשב את הסטטיסטי המתאים ולבדוק האם התוצאות נופלות באזור הדחייה או הקבלה.

**שלב ו:** להסיק מסקנה בהתאם לתוצאות המדגם.

**דוגמה (פתרון בהקלטה):**

משרד הבריאות פרסם שמשקל ממוצע של תינוקות ביום לידתם בישראל 3300 גרם. משרד הבריאות רוצה לחקור את הטענה שנשים מעשנות בזמן ההיריון יולדות תינוקות במשקל נמוך מהממוצע. במחקר השתתפו 20 נשים מעשנות בהריון. להלן תוצאות המדגם שבדק את המשקל של התינוקות בעת הלידה:

$$n = 20, \bar{X} = 3120, S = 280$$

- א. מהי אוכלוסיית המחקר?
- ב. מה המשתנה הנחקר?
- ג. מה הפרמטר הנחקר?
- ד. מהן השערות המחקר?

## שאלות:

בשאלות הבאות, ענו על הסעיפים הבאים:

- א. מהי אוכלוסיית המחקר?
- ב. מה המשתנה הנחקר?
- ג. מה הפרמטר הנחקר?
- ד. מהן השערות המחקר?

- (1) ממוצע הציונים בבחינת הבגרות באנגלית הנו 72 עם סטיית תקן 15 נקודות. מורה טוען שפיתח שיטת לימוד חדשה שתעלה את ממוצע הציונים. משרד החינוך החליט לתת למורה 36 תלמידים אקראיים. ממוצע הציונים של אותם תלמידים לאחר שלמדו בשיטתו היה 75.5.
- (2) לפי הצהרת היצרן של חברת משקאות מסוימת נפח הנוזל בבקבוק מתפלג נורמלית עם תוחלת 500 סמ"ק וסטיית תקן 20 סמ"ק. אגודת הצרכנים מתלוננת על הפחתת נפח המשקה בבקבוק מהכמות המוצהרת. במדגם שעשתה אגודת הצרכנים התקבל נפח ממוצע של 492 סמ"ק במדגם בגודל 25.
- (3) במשך שנים אחוז המועמדים שהתקבל לפקולטה למשפטים היה 25%. השנה מתוך מדגם של 120 מועמדים התקבלו 22. מחקר מעוניין לבדוק האם השנה מקשים על הקבלה לפקולטה למשפטים.
- (4) בחודש ינואר השנה פורסם שאחוז האבטלה במשק הוא 8% במדגם עכשווי התקבל שמתוך 200 אנשים 6.5% מובטלים. רוצים לבדוק ברמת מובהקות של 5% האם כיום אחוז האבטלה הוא כמו בתחילת השנה.

### תשובות סופיות:

- (1) א. נבחנים בבגרות באנגלית.  
 ב. ציון.  
 ג. ממוצע הציונים בשיטת לימוד חדשה.  
 ד.  $H_0: \mu = 72$   
 $H_1: \mu > 72$
- (2) א. משקאות בבקבוק של חברה מסוימת.  
 ב. נפח משקה בסמ"ק.  
 ג. ממוצע נפח המשקה בבקבוק.  
 ד.  $H_0: \mu = 500$   
 $H_1: \mu < 500$
- (3) א. מועמדים לפקולטה למשפטים.  
 ב. משתנה דיכוטומי (התקבל, לא התקבל).  
 ג. אחוז הקבלה.  
 ד.  $H_0: p = 0.25$   
 $H_1: p < 0.25$
- (4) א. אזרחים בוגרים במשק.  
 ב. משתנה דיכוטומי (מובטל, עובד).  
 ג. אחוז האבטלה כיום.  
 ד.  $H_0: p = 0.08$   
 $H_1: p \neq 0.08$

## סוגי טעויות:

### רקע:

בתהליך של בדיקת השערות יוצרים כלל שניקרא כלל הכרעה.  
 הכלל יוצר אזורים שנקראים:

1. אזור דחייה – דחייה של השערת האפס כלומר קבלה של האלטרנטיבה.
2. אזור קבלה – קבלה של השערת האפס ודחייה של האלטרנטיבה.

כלל ההכרעה מתבסס על איזשהו סטטיסטי.  
 בתהליך יש ללכת לתוצאות המדגם ולבדוק האם התוצאות נופלות באזור הדחייה או הקבלה וכך להגיע למסקנה – המסקנה היא בעירבון מוגבל כיוון שהיא תלויה בכלל ההכרעה ובתוצאות המדגם. אם נשנה את כלל ההכרעה אז אנחנו יכולים לקבל מסקנה אחרת. אם נבצע מדגם חדש אז אנחנו עלולים לקבל תוצאה אחרת. לכן יתכנו טעויות במסקנות שלנו:

		הכרעה	
		$H_0$	$H_1$
מציאות	$H_0$	אין טעות	טעות מסוג 1
	$H_1$	טעות מסוג 2	אין טעות

### הגדרת הטעויות:

טעות מסוג ראשון: להכריע לדחות את  $H_0$  למרות שבמציאות  $H_0$  נכונה.

טעות מסוג שני: להכריע לקבל את  $H_0$  למרות שבמציאות  $H_1$  נכונה.

### דוגמה (פתרון בהקלטה):

אדם חשוד בביצוע עבירה ונתבע בבית המשפט.  
 אילו סוגי טעויות אפשריות בהכרעת הדין?

## שאלות:

- (1) לפי הצהרת היצרן של חברת משקאות מסוימת נפח הנוזל בבקבוק מתפלג נורמלית עם תוחלת 500 סמ"ק וסטיית תקן 20 סמ"ק. אגודת הצרכנים מתלוננת על הפחתת נפח המשקה בבקבוק מהכמות המוצהרת. במדגם שעשתה אגודת הצרכנים התקבל נפח ממוצע של 492 סמ"ק במדגם בגודל 25. בסופו של דבר הוחלט להכריע לטובת חברת המשקאות.
- א. רשמו את השערות המחקר.  
 ב. מה מסקנת המחקר?  
 ג. איזו סוג טעות יתכן וביצעו במחקר?
- (2) במחקר על פרמטר מסוים הוחלט בסופו של דבר לדחות את השערת האפס.
- א. האם ניתן לדעת אם בוצע טעות במחקר?  
 ב. מה סוג הטעות האפשרית?
- (3) לפי נתוני משרד הפנים בשנת 1980 למשפחה ממוצעת היה 2.3 ילדים למשפחה עם סטיית תקן 0.4. ישנה טענה שכיום ממוצע מספר הילדים במשפחה קטן יותר. לצורך כך הוחלט לדגום 121 משפחות. במדגם התקבל ממוצע 2.17 ילדים למשפחה. על סמך תוצאות המדגם נקבע שלא ניתן לקבוע שבאופן מובהק תוחלת מספר הילדים למשפחה קטנה כיום.
- א. מהי אוכלוסיית המחקר?  
 ב. מה המשתנה הנחקר?  
 ג. מה הפרמטר הנחקר?  
 ד. מה השערות המחקר?  
 ה. מה מסקנת המחקר?  
 ו. מהי סוג הטעות האפשרית במחקר?

## תשובות סופיות:

- (1) א.  $H_0: \mu = 500$   
 ב. לא דחינו את  $H_0$ .  
 ג. טעות מסוג שני.
- (2) א. לא ניתן לדעת.  
 ב. טעות מסוג ראשון.  
 (3) א. משפחות כיום.  
 ב. מס' הילדים.  
 ג. תוחלת מספר הילדים למשפחה כיום.  
 ה. לא לדחות את  $H_0$ . ו. טעות מסוג שני.
- ד.  $H_0: \mu = 2.3$   
 $H_1: \mu < 2.3$

## מבוא לסטטיסטיקה

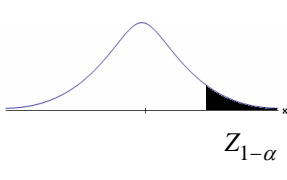
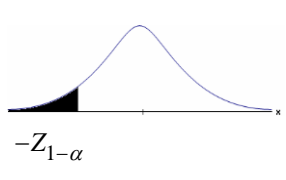
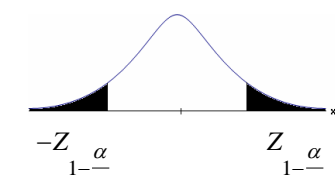
פרק 25 - בדיקת השערות על תוחלת (ממוצע)

תוכן העניינים

- 115 ..... 1. בדיקת השערות על תוחלת (ממוצע) כששונות האוכלוסיה ידועה
- 119 ..... 2. מובהקות תוצאה - אלפא מינימלית (ששונות האוכלוסיה ידועה)
- 124 ..... 3. בדיקת השערות על תוחלת ( ממוצע) כששונות האוכלוסיה לא ידועה
- 128 ..... 4. מובהקות תוצאה - אלפא מינימלית (ששונות האוכלוסיה לא ידועה)
- 131 ..... 5. הקשר בין רווח סמך לבדיקת השערות על תוחלת (ממוצע)
- 133 ..... 6. ניתוח פלטים

## בדיקת השערות על תוחלת (ממוצע) כששונות האוכלוסייה ידועה:

רקע:

$H_0: \mu \leq \mu_0$ $H_1: \mu > \mu_0$	$H_0: \mu \geq \mu_0$ $H_1: \mu < \mu_0$	$H_0: \mu = \mu_0$ $H_1: \mu \neq \mu_0$	השערת האפס: השערה אלטרנטיבה:
1. $\sigma$ ידועה 2. $X \sim N$ או מדגם מספיק גדול			תנאים:
$Z_{\bar{x}} > Z_{1-\alpha}$  $Z_{1-\alpha}$ דוחים את $H_0$	$Z_{\bar{x}} < -Z_{1-\alpha}$  $-Z_{1-\alpha}$ דוחים את $H_0$	$Z_{\bar{x}} < -Z_{1-\frac{\alpha}{2}}$ או $Z_{\bar{x}} > Z_{1-\frac{\alpha}{2}}$  $-Z_{1-\frac{\alpha}{2}}$ $Z_{1-\frac{\alpha}{2}}$ דוחים את $H_0$	כלל ההכרעה: אזור הדחייה של $H_0$

$$Z_{\bar{x}} = \frac{\bar{X} - \mu_0}{\frac{\sigma}{\sqrt{n}}}$$

סטטיסטי המבחן:

חלופה אחרת לכלל הכרעה:

$\bar{X} > \mu_0 + Z_{1-\alpha} \cdot \frac{\sigma}{\sqrt{n}}$	$\bar{X} < \mu_0 - Z_{1-\alpha} \cdot \frac{\sigma}{\sqrt{n}}$	$\bar{X} > \mu_0 + Z_{1-\frac{\alpha}{2}} \cdot \frac{\sigma}{\sqrt{n}}$ או $\bar{X} < \mu_0 - Z_{1-\frac{\alpha}{2}} \cdot \frac{\sigma}{\sqrt{n}}$	נדחה $H_0$ אם מתקיים:
--	--	--	-----------------------

**דוגמה:**

יבול העגבניות מתפלג נורמלית עם תוחלת של 10 טון לדונם וסטיית תקן של 2.5 טון לדונם בעונה. משערים ששיטת זיבול חדשה תעלה את תוחלת היבול לעונה מבלי לשנות את סטיית התקן. נדגמו 4 חלקות שזובלו בשיטה החדשה. היבול הממוצע שהתקבל היה 12.5 טון לדונם. בדקו את ההשערה ברמת מובהקות של 1%.

**פיתרון:**

אוכלוסייה: עגבניות.

המשתנה:  $X =$  יבול העגבניות בטון לעונה.

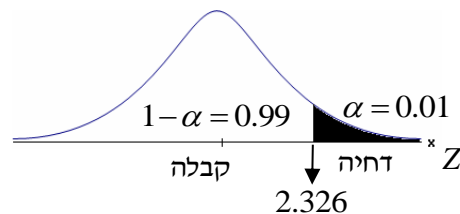
הפרמטר:  $\mu =$  תוחלת היבול בשיטת הזיבול החדשה.

השערות:  
 $H_0: \mu = 10$   
 $H_1: \mu > 10$

**תנאים:**

1.  $X \sim N$

2.  $\sigma = 2.5$

**כלל הכרעה:**

נדחה את  $H_0$  אם  $Z_{\bar{x}} > 2.326$

תוצאות:  $n = 4$ ,  $\bar{x} = 12.5$

סטטיסטי המבחן:  $Z_{\bar{x}} = \frac{\bar{X} - \mu_0}{\frac{\sigma}{\sqrt{n}}}$

נציב:  $Z_{\bar{x}} = \frac{1.25 - 10}{\frac{2.5}{\sqrt{4}}} = 2 < 2.326$

**מסקנה:**

לא נדחה  $H_0$  (נקבל  $H_0$ ).

ברמת מובהקות של 1% לא נוכל לקבל את הטענה ששיטת הזיבול החדשה מעלה את תוחלת היבול של העגבניות.

## שאלות:

- (1) ממוצע הציונים בבחינת הבגרות באנגלית הנו 72 עם סטיית תקן 15 נקודות. מורה טוען שפיתח שיטת לימוד חדשה שתעלה את ממוצע הציונים. משרד החינוך החליט לתת למורה 36 תלמידים אקראיים. ממוצע הציונים של אותם תלמידים לאחר שלמדו בשיטתו היה 75.5. בהנחה שגם בשיטתו סטיית התקן תהיה 15 מה מסקנתכם ברמת מובהקות של 5%?
- (2) לפי הצהרת היצרן של חברת משקאות מסוימת נפח הנוזל בבקבוק מתפלג נורמלית עם תוחלת 500 ס"מ<sup>3</sup> וסטיית תקן 20 ס"מ<sup>3</sup>. אגודת הצרכנים מתלוננת על הפחתת נפח המשקה בבקבוק מהכמות המוצהרת. במדגם שעשתה אגודת הצרכנים התקבל נפח ממוצע של 492 ס"מ<sup>3</sup> במדגם בגודל 25. א. מה מסקנתכם ברמת מובהקות של 2.5%? ב. האם ניתן לדעת מה תהיה המסקנה עבור רמת מובהקות הגבוהה מ-5%?
- (3) מהנדס האיכות מעוניין לבדוק אם מכונה מכיילת (מאופסת). המכונה כוונה לחתוך מוטות באורך 50 ס"מ. לפי נתוני היצרן סטיית התקן בחיתוך המוטות היא 0.5 ס"מ. במדגם של 50 מוטות התקבל ממוצע אורך המוט 50.93 ס"מ. מה מסקנתכם ברמת מובהקות של 5%?
- (4) המשקל הממוצע של הספורטאים בתחום ספורט מסוים הוא 90 ק"ג, עם סטיית תקן 8 ק"ג. לפי דעת מומחים בתחום יש צורך בהורדת המשקל ובשימוש בדיאטה מסוימת שצריכה להביא להורדת המשקל. לשם בדיקת יעילות הדיאטה נלקח מדגם מקרי של 50 ספורטאים ובתום שנה של שימוש בדיאטה התברר שהמשקל הממוצע במדגם זה היה 84 ק"ג. יש לבדוק בר"מ של 10%, האם הדיאטה גורמת להורדת המשקל.
- (5) לפי מפרט נתון, על עובי בורג להיות 4 מ"מ עם סטיית תקן של 0.2 מ"מ. במדגם של 25 ברגים העובי הממוצע היה 4.07 מ"מ. קבעו ברמת מובהקות 0.05, האם עובי הברגים מתאים למפרט. הניחו כי עובי של בורג מתפלג נורמלית וסטיית התקן של עובי בורג היא אכן 0.2 מ"מ.
- (6) במחקר נמצא שתוצאה היא מובהקת ברמת מובהקות של 5% מה תמיד נכון? בחרו בתשובה הנכונה.
- א. הגדלת רמת המובהקות לא תשנה את מסקנת המחקר.  
 ב. הגדלת רמת המובהקות תשנה את מסקנת המחקר.  
 ג. הקטנת רמת המובהקות לא תשנה את מסקנת המחקר.  
 ד. הקטנת רמת המובהקות תשנה את מסקנת המחקר.

(7) חוקר ערך מבחן דו צדדי ברמת מובהקות של  $\alpha$  והחליט לדחות את השערת האפס.

אם החוקר היה עורך מבחן צדדי ברמת מובהקות של  $\frac{\alpha}{2}$  אזי בהכרח:

- א. השערת האפס הייתה נדחית.
- ב. השערת האפס הייתה לא נדחית.
- ג. לא ניתן לדעת מה תהיה מסקנתו במקרה זה.

(8) שני סטטיסטיקאים בדקו השערות:  $H_0: \mu = \mu_0$  כנגד  $H_1: \mu > \mu_0$ ,

עבור שונות ידועה ובאותה רמת מובהקות.

שני החוקרים קבלו אותו ממוצע במדגם אך לחוקר א' היה מדגם בגודל 100 ולחוקר ב' מדגם בגודל 200.

- א. אם חוקר א' החליט לדחות את  $H_0$ , מה יחליט חוקר ב'? נמקו.
- ב. אם חוקר א' יחליט לא לדחות את  $H_0$ , מה יחליט חוקר ב'? נמקו.

### תשובות סופיות:

(1) נקבל  $H_0$ , בר"מ של 5% לא נקבל את הטענה של המורה ששיטת הלימוד שלו מעלה את ממוצע הציונים.

(2) א. נדחה  $H_0$ , בר"מ של 2.5% נקבל את תלונת אגודת הצרכנים בדבר הפחתת נפח המשקה בבקבוק.

ב. הגדלנו את רמת המובהקות לכן אנחנו נשארים בדחייה של  $H_0$  והמסקנה לא תשתנה.

(3) נדחה  $H_0$ , בר"מ של 5% נקבע שהמכונה לא מאופסת.

(4) נדחה  $H_0$ , בר"מ של 0.1 נקבל את הטענה שהדיאטה יעילה ומפחיתה את המשקל הממוצע.

(5) נקבל  $H_0$ , בר"מ של 0.05 נכריע שתוחלת עובי הבורג מתים למפרט.

(6) א'.

(7) ג'.

(8) א. לדחות. ב. לא ניתן לדעת.

## מובהקות תוצאה – אלפא מינימלית (ששונות האוכלוסייה ידועה):

### רקע:

דרך נוספת להגיע להכרעות שלא דרך כלל הכרעה, היא דרך חישוב מובהקות התוצאה:

באמצעות תוצאות המדגם מחשבים את מובהקות התוצאה שמסומן ב- $p_v$ . את רמת המובהקות החוקר קובע מראש לעומת זאת, את מובהקות התוצאה החוקר יוכל לחשב רק אחרי שיהיו לו את התוצאות.

המסקנה של המחקר תקבע לפי העיקרון הבא: אם  $p_v \leq \alpha$ , דוחים את  $H_0$ . מובהקות התוצאה זה הסיכוי לקבלת תוצאות המדגם וקיצוני מתוצאות אלה בהנחת השערת האפס.

(לקבל את תוצאות המדגם וקיצוני)  $p_v = P_{H_0}$ .

אם ההשערה היא דו צדדית:

(לקבל את תוצאות המדגם וקיצוני)  $p_v = 2P_{H_0}$ .

מובהקות התוצאה היא גם האלפא המינימלית לדחיית השערת האפס.

$H_0: \mu = \mu_0$ $H_1: \mu > \mu_0$	$H_0: \mu = \mu_0$ $H_1: \mu < \mu_0$	$H_0: \mu = \mu_0$ $H_1: \mu \neq \mu_0$	השערת האפס: השערה אלטרנטיבה:
1. $\sigma$ ידועה			תנאים:
2. $X \sim N$ או מדגם מספיק גדול			
$P_{H_0}(\bar{X} \geq \bar{x})$	$P_{H_0}(\bar{X} \leq \bar{x})$	אם $2 \cdot P_{H_0}(\bar{X} \geq \bar{x}) \leftarrow \bar{x} > \mu_0$ אם $2 \cdot P_{H_0}(\bar{X} \leq \bar{x}) \leftarrow \bar{x} < \mu_0$	p-value

כאשר בהנחת השערת האפס:  $Z_{\bar{x}} = \frac{\bar{x} - \mu_0}{\frac{\sigma}{\sqrt{n}}}$ ,  $\bar{X} \sim N\left(\mu_0, \frac{\sigma^2}{n}\right)$

**דוגמה:**

המשקל הממוצע של מתגייסים לצבא לפני 20 שנה היה 65 ק"ג. מחקר מעוניין לבדוק האם כיום המשקל הממוצע של מתגייסים גבוה יותר. נניח שמשקל המתגייסים מתפלג נורמאלית עם סטיית תקן של 12 ק"ג. במדגם של 16 מתגייסים התקבל משקל ממוצע של 71 ק"ג.

א. מהי מובהקות התוצאה?

ב. מה המסקנה אם רמת המובהקות היא 5% ואם רמת המובהקות היא 1%?

**פתרון:**

א. אוכלוסייה: המתגייסים לצבא כיום.

משתנה:  $X =$  משקל בק"ג.

פרמטר:  $\mu$ .

$$H_0: \mu = 65$$

השערות:  $H_1: \mu > 65$

תנאים:

$$1. X \sim N$$

$$2. \sigma = 12$$

תוצאות מדגם:

$$n = 16$$

$$\bar{X} = 71$$

$$P_V = P_{H_0} \left( \begin{array}{c} \text{לתוצאות} \\ \text{המדגם} \\ \text{וקיצוני} \end{array} \right) = P_{H_0} (\bar{X} \geq 71) = 1 - \phi(2) = 1 - 0.9772 = 0.0228$$

$$Z_{\bar{x}} = \frac{\bar{x} - \mu_0}{\frac{\sigma}{\sqrt{n}}} = \frac{71 - 65}{\frac{12}{\sqrt{16}}} = 2$$

$$\alpha_{\min} = 0.0228$$

## שאלות:

- (1) להלן השערות של מחקר:  $H_0: \mu = 70$ ,  $H_1: \mu > 70$ . המשתנה הנחקר מתפלג נורמלית עם סטיית תקן 20. במדגם מאותה אוכלוסייה התקבלו התוצאות הבאות:  $n = 100$ ,  $\bar{x} = 74$ . מהי מובהקות התוצאה?
- (2) השכר הממוצע במשק בשנת 2012 היה 8800 ₪ עם סטיית תקן 2000. במדגם שנעשה אתמול על 100 עובדים התקבל שכר ממוצע 9500 ₪. מטרת המחקר היא לבדוק האם כיום חלה עליה בשכר. עבור אילו רמות מובהקות שיבחר החוקר יוחלט שחלה עליה בשכר הממוצע במשק?
- (3) אדם חושד שחברת ממתקים לא עומדת בהתחייבויותיה, ומשקלו של חטיף מסוים אותו הוא קונה מדי בוקר נמוך מ-100 גרם. חברת הממתקים טוענת מצידה שהיא אכן עומדת בהתחייבויותיה. ידוע כי סטיית התקן של משקל החטיף היא 12 גרם. האדם מתכוון לשקול 100 חפיסות חטיפים ולאחר מכן להגיע להחלטה. לאחר הבדיקה הוא קיבל משקל הממוצע של 98.5 גרם.  
 א. רשמו את השערות המחקר.  
 ב. מהי רמת המובהקות המינימלית עבורה דוחים את השערת האפס?  
 ג. מהי רמת המובהקות המקסימלית עבורה נקבל את השערת האפס?  
 ד. מה המסקנה ברמת מובהקות של 5?
- (4) מכונה לחיתוך מוטות במפעל חותכת מוטות באורך שמתפלג נורמלית עם תוחלת אליה כוונה המכונה וסטיית תקן 2 ס"מ. ביום מסוים כוונה המכונה לחתוך מוטות באורך 80 ס"מ. אחראי האיכות מעוניין לבדוק האם המכונה מכוילת. לצורך כך נדגמו מקו הייצור 16 מוטות שנחתכו אורכן הממוצע היה 81.7 ס"מ.  
 א. מהי רמת המובהקות המינימלית עבורה נכריע שהמכונה לא מכוילת?  
 ב. אם נוסיף עוד תצפית שערכה יהיה 82 ס"מ, כיצד הדבר ישפיע על התשובה של הסעיף הקודם?  
 ג. הכרע ברמת מובהקות של 5% האם המכונה מכוילת.
- (5) אם מקבלים בחישובים אלפא מינימלית (P value) קטנה מאד, סביר להניח כי החוקר ידחה את השערת האפס בקלות. נכון/לא נכון? נמק.

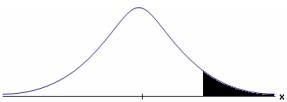
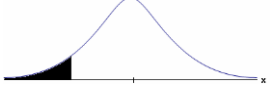
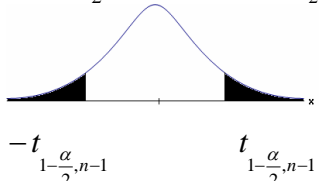
- 6) בבדיקת השערות התקבל שה-  $p\text{-value} = 0.02$ .  
 מה תהיה מסקנת חוקר המשתמש ברמת מובהקות 1%?  
 בחרו בתשובה הנכונה.
- א. יקבל את השערת האפס בכל מקרה.
  - ב. ידחה את השערת האפס מקרה.
  - ג. ידחה את השערת האפס רק אם המבחן הנו דו צדדי.
  - ד. לא ניתן לדעת כי אין מספיק נתונים.
- 7) מובהקות התוצאה (PV) היא גם (בחרו בתשובה הנכונה):
- א. רמת המובהקות המינימאלית לדחות השערת האפס.
  - ב. רמת המובהקות המקסימאלית לדחיית השערת האפס.
  - ג. רמת המובהקות שנקבעת מראש על ידי החוקר שטרם קיבל את תוצאות המחקר.
  - ד. רמת המובהקות המינימאלית לאי דחיית השערת האפס.
- 8) בבדיקת השערות מסוימת התקבל:  $p\text{ value} = 0.0254$  לכן (בחרו בתשובה הנכונה):
- א. ברמת מובהקות של 0.01 אך לא של 0.05 נדחה את  $H_0$ .
  - ב. ברמת מובהקות של 0.01 ושל 0.05 לא נדחה את  $H_0$ .
  - ג. ברמת מובהקות של 0.05 אך לא של 0.01 נדחה את  $H_0$ .
  - ד. ברמת מובהקות של 0.01 ושל 0.05 נדחה את  $H_0$ .

### תשובות סופיות:

- (1) 0.0228.
- (2) עבור כל רמת מובהקות סבירה.
- (3) א.  $H_0: \mu = 100$   
 $H_1: \mu < 100$   
 ב. 0.1056. ג. 0.1056.
- ד. נכריע שיש עמידה בהתחייבות של החברה.
- (4) א. 0.0006. ב. יקטן. ג. נכריע שאין כיול.
- (5) נכון.
- (6) א'.
- (7) א'.
- (8) ג'.

## בדיקת השערות על תוחלת (ממוצע) כששונות האוכלוסייה לא ידועה:

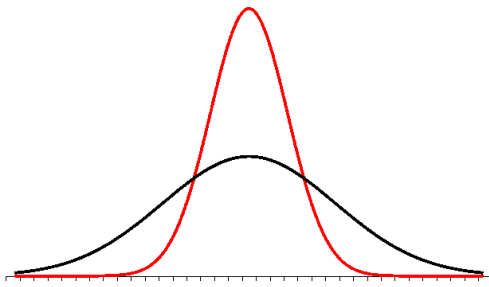
רקע:

$H_0 : \mu = \mu_0$ $H_1 : \mu > \mu_0$	$H_0 : \mu = \mu_0$ $H_1 : \mu < \mu_0$	$H_0 : \mu = \mu_0$ $H_1 : \mu \neq \mu_0$	השערת האפס: השערה אלטרנטיבה:
1. $\sigma$ אינה ידועה 2. $X \sim N$ או מדגם מספיק גדול			תנאים:
$t_{\bar{x}} > t_{1-\alpha}^{(n-1)}$  $t_{1-\alpha, n-1}$ - דוחים את $H_0$	$t_{\bar{x}} < -t_{1-\alpha}^{(n-1)}$  $-t_{1-\alpha, n-1}$ - דוחים את $H_0$	$t_{\bar{x}} < -t_{1-\frac{\alpha}{2}}^{(n-1)}$ או $t_{\bar{x}} > t_{1-\frac{\alpha}{2}}^{(n-1)}$  $-t_{1-\frac{\alpha}{2}, n-1}$ $t_{1-\frac{\alpha}{2}, n-1}$ - דוחים את $H_0$	כלל ההכרעה: אזור הדחייה של $H_0$ :
$\bar{X} > \mu_0 + t_{1-\alpha}^{n-1} \cdot \frac{S}{\sqrt{n}}$	$\bar{X} < \mu_0 - t_{1-\alpha}^{n-1} \cdot \frac{S}{\sqrt{n}}$	$\bar{X} > \mu_0 + t_{1-\frac{\alpha}{2}}^{n-1} \cdot \frac{S}{\sqrt{n}}$ או $\bar{X} < \mu_0 - t_{1-\frac{\alpha}{2}}^{n-1} \cdot \frac{S}{\sqrt{n}}$	חלופה לכלל הכרעה: נדחה $H_0$ אם מתקיים:

$$t_{\bar{x}} = \frac{\bar{x} - \mu_0}{\frac{S}{\sqrt{n}}}$$

סטטיסטי המבחן:

$$S^2 = \frac{\sum_{i=1}^n (X_i - \bar{X})^2}{n-1} = \frac{\sum_{i=1}^n X_i^2 - n\bar{X}^2}{n-1}$$



### התפלגות T:

הינה התפלגות סימטרית פעמונית שהתוחלת שלה היא 0. ההתפלגות דומה להתפלגות Z רק שהיא יותר רחבה ולכן הערכים שלה יהיו יותר גבוהים. התפלגות T תלויה במושג שנקרא דרגות חופש.

דרגות החופש הן:  $df = n - 1$ .

ככל שדרגות החופש עולות ההתפלגות הופכת להיות יותר גבוהה וצרה. כשדרגות החופש שואפות לאינסוף התפלגות T שואפת להיות כמו התפלגות Z.

### דוגמה (פתרון בהקלטה):

מפעל קיבל הזמנה לייצור משטחים בעובי של 0.1 ס"מ. כדי לבדוק האם המפעל עומד בדרישה נדגמו 10 משטחים ונמצא שהעובי הממוצע הוא 0.104 עם אומדן לסטיית תקן 0.002 ס"מ.

א. מהן השערות המחקר?

ב. מה ההנחה הדרושה לצורך פתרון?

ג. בדוק ברמת מובהקות של 5%.

## שאלות:

(1) משך זמן ההחלמה בלקיחת אנטיביוטיקה מסוימת הוא 120 שעות בממוצע עם סטיית תקן לא ידועה. מעוניינים לבדוק האם אנטיביוטיקה אחרת מקטינה את משך זמן ההחלמה. במדגם של 5 חולים שלקחו את האנטיביוטיקה האחרת התקבלו זמני ההחלמה הבאים: 90, 95, 100, 80, 125 שעות. מה מסקנתכם ברמת מובהקות של 5%. מהי ההנחה הדרושה לצורך הפתרון?

(2) משרד הבריאות פרסם שמשקל ממוצע של תינוקות ביום היוולדם בישראל 3300 גר'. משרד הבריאות רוצה לחקור את הטענה ששנים מעשנות בזמן ההיריון יולדות תינוקות במשקל נמוך מהממוצע. במחקר השתתפו 20 נשים מעשנות בהריון. להלן תוצאות המדגם שבדק את המשקל של התינוקות בעת הלידה:

$$n = 20$$

$$\bar{x} = 3120$$

$$S = 280$$

מה מסקנתכם ברמת מובהקות של 5% מה יש להניח לצורך פתרון?

(3) ציוני מבחן אינטליגנציה מתפלגים נורמלית. בארה"ב ממוצע הציונים הוא 100. במדגם שנעשה על 23 נבחנים ישראלים, התקבל ממוצע ציונים 104.5 וסטיית התקן המדגמית 16. האם בישראל ממוצע הציונים שונה מארה"ב? הסיקו ברמת מובהקות של 5%.

(4) באוכלוסייה מסוימת נדגמו 10 תצפיות והתקבלו התוצאות הבאות:

$$\sum_{i=1}^{10} X_i = 750$$

$$\sum_{i=1}^{10} (X_i - \bar{X})^2 = 900$$

נתון שההתפלגות היא נורמלית.

בדוק ברמת מובהקות של 5% האם התוחלת של ההתפלגות שונה מ-80.

- (5) ליאור ורוני העלו את אותן השערות על ממוצע האוכלוסייה. כמו כן הם התבססו על אותן תוצאות של מדגם. ליאור השתמש בטבלה של התפלגות  $Z$ . רוני השתמשה בטבלה של התפלגות  $t$ . מה נוכל לומר בנוגע להחלטת המחקר שלהם? בחר בתשובה הנכונה.
- אם ליאור ידחה את השערת האפס אז גם בהכרח רוני.
  - אם רוני תדחה את השערת האפס אז גם בהכרח ליאור.
  - שני החוקרים בהכרח יגיעו לאותה מסקנה.
  - לא ניתן לדעת על היחס בין דחיית השערת האפס של שני החוקרים.

- (6) נתון ש:  $X \sim N(\mu, \sigma^2)$  כמו כן נתונות ההשערות הבאות:  $H_0: \mu = \mu_0$  ,  $H_1: \mu < \mu_0$

חוקר בדק את ההשערות הללו על סמך מדגם שכלל 10 תצפיות.  $\sigma^2$  לא הייתה ידועה לחוקר. החוקר החליט לדחות את השערת האפס ברמת מובהקות של 5% לאחר מכן כדי לחזק את קביעתו הוא דגם עוד 5 תצפיות ושקלל את תוצאות אלה גם למדגם כך שכלל עכשיו 15 תצפיות. בחר בתשובה הנכונה:

- כעת בברור הוא ידחה את השערת האפס.
- כעת הוא דווקא יקבל את השערת האפס.
- כעת לא ניתן לדעת מה תהיה מסקנתו.

### תשובות סופיות:

- (1) נדחה  $H_0$ .
- (2) נדחה  $H_0$ .
- (3) נקבל  $H_0$ .
- (4) נקבל  $H_0$ .
- (5) ב'.
- (6) ג'.

## מובהקות תוצאה – אלפא מינימלית (ששונות האוכלוסייה לא ידועה):

### רקע:

נוכיר שהמסקנה של המחקר תיקבע לפי העיקרון הבא: אם  $p_v \leq \alpha$  דוחים את  $H_0$ . מובהקות התוצאה היא הסיכוי לקבלת תוצאות המדגם וקיצוני מתוצאות אלה בהנחת השערת האפס.

· לקבל את תוצאות המדגם וקיצוני  $p_v = P_{H_0}$ .

אם ההשערה היא דו צדדית:

· לקבל את תוצאות המדגם וקיצוני  $p_v = 2P_{H_0}$ .

מובהקות התוצאה היא גם האלפא המינימלית לדחיית השערת האפס.

$H_0: \mu = \mu_0$ $H_1: \mu > \mu_0$	$H_0: \mu = \mu_0$ $H_1: \mu < \mu_0$	$H_0: \mu = \mu_0$ $H_1: \mu \neq \mu_0$	השערת האפס: השערה אלטרנטיבה:
1. אינה ידועה או 2. מדגם מספיק גדול $X \sim N$			תנאים:
$P_{H_0}(\bar{X} \geq \bar{x})$	$P_{H_0}(\bar{X} \leq \bar{x})$	אם $2 \cdot P_{H_0}(\bar{X} \geq \bar{x}) \leftarrow \bar{x} > \mu_0$ אם $2 \cdot P_{H_0}(\bar{X} \leq \bar{x}) \leftarrow \bar{x} < \mu_0$	p-value

$$t_{\bar{x}} = \frac{\bar{x} - \mu_0}{\frac{S}{\sqrt{n}}}$$

$$S^2 = \frac{\sum_{i=1}^n (X_i - \bar{X})^2}{n-1} = \frac{\sum_{i=1}^n X_i^2 - n\bar{X}^2}{n-1}$$

$$d.f = n - 1$$

**דוגמה:**

ממוצע זמן הנסיעה של אדם לעבודה הינו 40 דקות. הוא מעוניין לבדוק דרך חלופית שאמורה להיות יותר מהירה. לצורך כך הוא דוגם 5 ימים שבהם הוא נוסע בדרך החלופית. זמני הנסיעה שקיבל בדקות הם: 34, 40, 30, 32, 27. הניחו שזמן הנסיעה מתפלג נורמלית.

- רשמו את השערות המחקר.
- מצאו חסמים למובהקות התוצאה.
- מה המסקנה ברמת מובהקות של 5%?

**פתרון:**

אוכלוסייה: כלל הנסיעות לעבודה בדרך החלופית.

משתנה:  $X =$  זמן נסיעה בדקות.

תנאים:  $X \sim N$ .

פרמטר:  $\mu$ .

א. השערות:  
 $H_0: \mu = 40$   
 $H_1: \mu < 40$

ב. תוצאות המדגם:

$$n = 5, \bar{X} = \frac{\sum X_i}{n} = \frac{34 + 40 + \dots}{5} = 32.6$$

$$S^2 = \frac{\sum X_i^2 - n \cdot \bar{X}^2}{n-1} = \frac{34^2 + 40^2 - \dots - 5 \cdot 32.6^2}{5-1} = 23.4$$

$$S = \sqrt{23.4}$$

$$t_{\bar{X}} = \frac{\bar{X} - \mu_0}{\frac{S}{\sqrt{n}}} = \frac{32.6 - 40}{\frac{4.88}{\sqrt{5}}} = -3.39$$

$$P_V = P_{H_0} = ( \bar{X} \leq 32.6 ) = P(t \leq -3.39)$$

$$d.f = 5 - 1 = 4$$

$$1\% < P_V < 2.5\%$$

$P_V < \alpha = 0.05$ , לכן דוחים את  $H_0$ .

מסקנה: בר"מ של 5% נכריע שהדרך החלופית מהירה יותר.

## שאלות:

- (1) קו ייצור אריזות סוכר נארזות כך שהמשקל הממוצע של אריזות הסוכר צריך להיות אחד קילוגרם. בכל יום דוגמים מקו הייצור 5 אריזות במטרה לבדוק האם קו הייצור תקין. בבדיקה דגמו 5 אריזות סוכר ולהלן משקלן בגרמים: 1024, 1008, 1005, 996, 997.
- א. רשמו את השערות המחקר.  
 ב. מהי מובהקות התוצאה? הצג חסמים.  
 ג. מה המסקנה ברמת מובהקות של 5%?
- (2) חוקר בדק את הטענה כי פועלים העובדים במשמרת לילה איטיים יותר מפועלים העובדים ביום. ידוע כי משך הזמן הממוצע הדרוש לייצר מוצר מסוים ביום הוא 6 שעות. במדגם מיקרי של 25 פועלים שעבדו במשמרת לילה נמצא כי הזמן הממוצע לייצר אותו מוצר הוא 7 שעות עם סטית תקן של 3 שעות.
- מהי ה- $\alpha$  המינימלית שלפיה ניתן להחליט שאכן העובדים במשמרת לילה איטיים יותר?
- (3) הגובה של מתגייסים לצה"ל מתפלג נורמלית. במדגם של 25 מתגייסים מדדו את הגבהים שלהם בס"מ והתקבלו התוצאות הבאות:
- $$\bar{x} = 176.2, \sum (x_i - \bar{x})^2 = 2832$$
- מטרת המחקר היא לבדוק האם תוחלת הגבהים של המתגייסים גבוה מ-174 ס"מ באופן מובהק.
- מהי בקרוב מובהקות התוצאה ועל פיה מה תהיה המסקנה ברמת מובהקות של 6%?

## תשובות סופיות:

- (1) א.  $H_0: \mu = 1000$   
 ב.  $20\% \leq P_v \leq 50\%$   
 ג. ברמת מובהקות של 5% לא נוכל לקבוע שקו הייצור אינו תקין.
- (2) 10%
- (3) 1.01, נקבל את  $H_0$ .

## הקשר בין רווח סמך לבדיקת השערות על תוחלת (ממוצע):

### רקע:

ניתן לבצע בדיקת השערות דו צדדית ברמת מובהקות  $\alpha$  על  $\mu$  :

$$. H_0 : \mu = \mu_0 , H_1 : \mu \neq \mu_0$$

על ידי בניית רווח סמך ברמת סמך של  $1-\alpha$  ל- $\mu$  :

אם  $\mu_0$  נופל ברווח  $\leftarrow$  נקבל את  $H_0$  .

אם  $\mu_0$  לא נופל ברווח  $\leftarrow$  נדחה את  $H_0$  .

### דוגמה:

חוקר ביצע בדיקת השערות לתוחלת. להלן השערותיו :

$$. H_0 : \mu = 80 , H_1 : \mu \neq 80 , \alpha = 5\%$$

החוקר בנה רווח סמך ברמה של 90% וקיבל:  $.79 < \mu < 84$  .

האם אפשר לדעת מה מסקנתו, ואם כן מהי?

### פתרון (פתרון מלא בהקלטה):

רווח הסמך ברמת סמך של 90% מכיל "80".

ברמת סמך של 95% רווח הסמך יגדל ויכיל "80".

לכן, ברמת מובהקות של 5% נקבל  $H_0$  .

## שאלות:

- (1) חוקר רצה לבדוק את ההשערות הבאות:  $H_0: \mu = 90$ ,  $H_1: \mu \neq 90$ . החוקר בנה רווח סמך לתוחלת ברמת סמך של 95% וקיבל את רווח הסמך הבא: (87, 97).  
אם החוקר מעוניין לבצע בדיקת השערות ברמת מובהקות של 1% האם ניתן להגיע למסקנה ע"ס רווח הסמך? נמקו.
- (2) חוקר מעוניין לבדוק השפעת דיאטה חדשה על רמת הסוכר בדם. ידוע כי מספר מיליגרם הסוכר בסמ"ק דם הוא משתנה מקרי שמתפלג נורמלית עם סטיית תקן 10.4 מ"ג. נלקח מדגם של 60 נבדקים שניזונו מדיאטה זו. נמצא כי ממוצע מספר המיליגרם סוכר היה 115.5 מ"ג לסמ"ק.  
א. בנה רווח סמך ברמת סמך 95% לתוחלת רמת הסוכר בדם אצל הניזונים מדיאטה זו.  
ב. ידוע שתוחלת רמת הסוכר בדם באוכלוסיה היא 90 מ"ג לסמ"ק. האם לדעתך ניתן להסיק על סמך תוצאת סעיף א שהדיאטה משפיעה על רמת הסוכר בדם? הסבירו.
- (3) יצרן אנטיביוטיקה רושם על גבי התרופות שכמות הפנצילין היא 200 מ"ג לקפסולה. משרד הבריאות ביצע מדגם של 8 קפסולות אקראיות מקו הייצור ומצא שבממוצע יש 196 מ"ג פנצילין לקפסולה עם סטיית תקן מדגמית של 5 מ"ג. בהנחה וכמות הפנצילין בקפסולה מתפלגת נורמלית.  
א. בנו רווח סמך ברמת סמך של 95% לממוצע כמות הפנצילין לקפסולה המיוצרת על ידי יצרן האנטיביוטיקה.  
ב. בדקו ברמת מובהקות של 5% האם יש אמת באינפורמציה המסופקת על ידי היצרן.

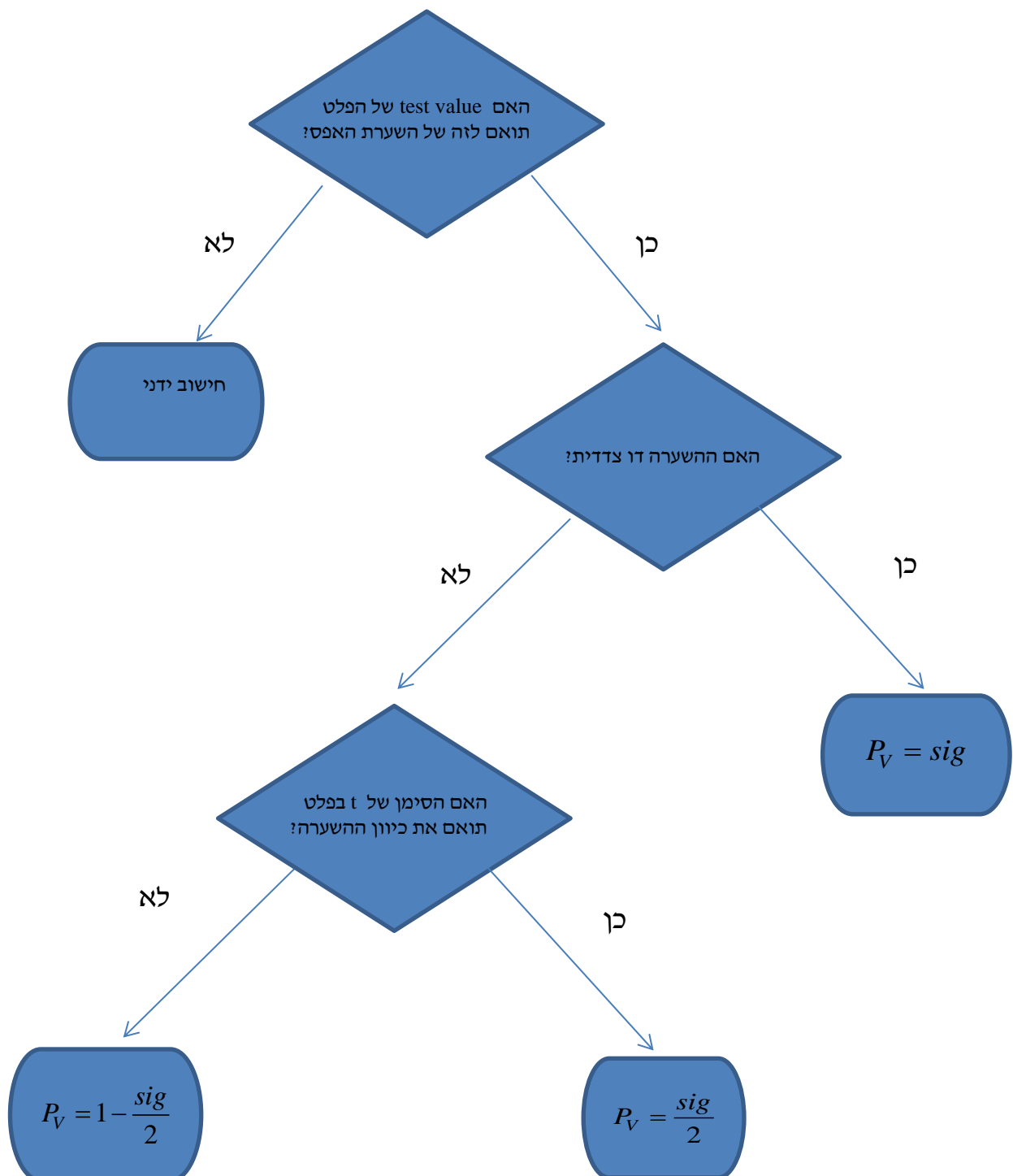
## תשובות סופיות:

- (1) נקבל השערת.  
(2) א.  $112.87 \leq \mu \leq 118.13$ .  
ב. נכריע שהדיאטה משפיעה על תוחלת רמת הסוכר בדם.  
(3) א.  $191.8 \leq \mu \leq 200.2$ . ב. נכריע שיש אמת בפרסום.

## ניתוח פלטים:

רקע:

חישוב מובהקות התוצאה באמצעות פלט תוכנת SPSS:



## דוגמה (פתרון בהקלטה):

One-Sample Statistics

	N	Mean	Std. Deviation	Std. Error Mean
X	25	87.6400	64.90434	12.98087

One-Sample Test

Test Value = 60						
	t	df	Sig. (2-tailed)	Mean Difference	95% Confidence Interval of the Difference	
					Lower	Upper
X	2.129	24	.044	27.64000	.8488	54.4312

ממוצע הציונים במבחן המיצב בחשבון הוא 60. הוחלט לדגום כיתה אקראית של 25 תלמידים וללמד אותם בשיטת לימוד חדשה.

- א. מהו רווח הסמך לממוצע הציונים בחשבון אם יוחלט ליישם את שיטת הלימוד החדשה?
- ב. מהו  $P_V$  לבדיקת יעילותה של שיטת הלימוד החדשה?
- ג. מה יוכרע ברמת מובהקות של 5% לגבי יעילותה של שיטת הלימוד החדשה?

## שאלות:

- 1) באוניברסיטה גדולה גיל הסטודנטים לתואר ראשון מתפלג נורמאלי. בעבר פורסם שהגיל הממוצע של הסטודנטים הינו 23. להלן פלט תוכנת SPSS על מדגם של 16 סטודנטים אקראיים מתואר ראשון:

One-Sample Statistics

	N	Mean	Std. Deviation	Std. Error Mean
age	16	23.4375	2.50250	.62562

One-Sample Test

	Test Value = 23					
	t	df	Sig. (2-tailed)	Mean Difference	95% Confidence Interval of the Difference	
					Lower	Upper
age	.699	15	.495	.43750	-.8960	1.7710

- א. מהו המבחן הסטטיסטי שנעשה כאן?  
 ב. מה ערכו של הפרמטר לפי השערת האפס?  
 ג. רשום רווח סמך ברמת סמך של 95% לתוחלת גיל הסטודנטים באוניברסיטה לתואר ראשון.  
 ד. בדוק ברמת מובהקות של 5% האם הגיל הממוצע כיום שונה מבעבר?

- 2) קבוצת ילדים בגיל 6 קיבלה משימה לביצוע. עבור כל ילד בדקו כמה זמן לקח לו לסיים את המשימה בדקות. להלן תוצאות הניתוח הסטטיסטי:

One-Sample Test

	Test Value = 4.5					
	t	df	Sig. (2-tailed)	Mean Difference	95% Confidence Interval of the Difference	
					Lower	Upper
time	-1.853	24	.076	-.09200	-.1944	.0104

- א. כמה ילדים השתתפו במחקר?  
 ב. מצא רווח סמך ברמת סמך של 95% לתוחלת זמן ביצוע המשימה עבור ילדים בני 6.  
 ג. מה יש להניח כדי שרווח הסמך מסעיף א' יהיה תקף?  
 ד. בדוק ברמת מובהקות של 5% שזמן ביצוע המשימה הממוצע נמוך מ-4.5 דקות.

3) להלן פלט מחשב עבור ניתוח סטטיסטי שנעשה בתוכנת SPSS. הניתוח הוא עבור מדגם אקראי של קבוצת נבחנים בבגרות באנגלית.

One-Sample Statistics

	N	Mean	Std. Deviation	Std. Error Mean
grade	???	???	19.62787	2.95901

One-Sample Test

	Test Value = 75					
	t	df	Sig. (2-tailed)	Mean Difference	95% Confidence Interval of the Difference	
					Lower	Upper
grade	???	43	.017	-7.34091	-13.3083	???

- א. השלימו את הגדלים החסרים המסומנים בסמני שאלה בפלט.  
 ב. מהי מובהקות התוצאה לבדיקת ההשערה שהתוחלת של הציונים שונה מ-75?  
 ג. מהי מובהקות התוצאה לבדיקת ההשערה שהתוחלת של הציונים קטנה מ-75?  
 ד. מהי מובהקות התוצאה לבדיקת ההשערה שהתוחלת של הציונים גדולה מ-75?

4) יצרן סיגריות מפרסם כי תוחלת הניקוטין בסיגריות שהוא מיצר קטנה מ-27 מ"ג. בבדיקה מקרית של 5 סיגריות מתוצרתו נמצאו כמויות הניקוטין הבאות: 21, 21, 20, 24, 22 מ"ג. הניחו כי כמות הניקוטין בסיגריות מפולג נורמאלי.

One-Sample Statistics

	N	Mean	Std. Deviation	Std. Error Mean
nicotine	5	21.6000	1.51658	.67823

One-Sample Test

	Test Value = 27					
	t	df	Sig. (2-tailed)	Mean Difference	95% Confidence Interval of the Difference	
					Lower	Upper
nicotine	-7.962	4	.001	-5.40000	-7.2831	-3.5169

- א. האם ברמת מובהקות של 5% ניתן להסיק שיש אמת בפרסום?  
 ב. אם היינו מוסיפים עוד תצפית שערכה 20. כיצד הדבר היה משפיע על הערך Sig ועל המסקנה?  
 ג. בדקו האם ניתן להגיד שתוחלת רמת הניקוטין שונה מ-26 ברמת מובהקות של 5%.

### תשובות סופיות:

- (1) א. הסקה של תוחלת אחת. ב. 23. ג. (22.104, 24.771). ד. נקבל  $H_0$ .
- (2) א. 25. ב. (4.3056, 4.5104). ג. המשתנה מתפלג נורמלית. ד. נדחה  $H_0$ .
- (3) א.  $n = 44$ ,  $\bar{X} = 67.66$ ,  $t = -2.48$ ,  $upper = -1.3735$ . ב. 0.017. ג. 0.0085. ד. 0.9915.
- (4) א. נכריע שיש אמת בפרסום. ב. המסקנה לא תשתנה. ג. נכריע שהתוחלת שונה מ-26.

# מבוא לסטטיסטיקה

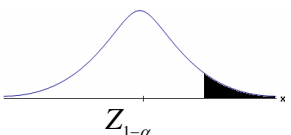
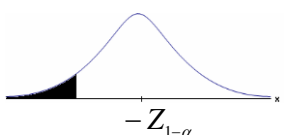
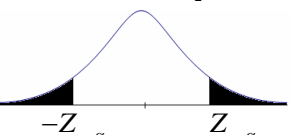
פרק 26 - בדיקת השערות על פרופורציה

תוכן העניינים

138	1. התהליך
141	2. מובהקות התוצאה - אלפא מינימלית

## התהליך:

רקע:

$H_0 : p = p_0$ $H_1 : p > p_0$	$H_0 : p = p_0$ $H_1 : p < p_0$	$H_0 : p = p_0$ $H_1 : p \neq p_0$	<b>השערת האפס: השערה אלטרנטיבית:</b>
$np_0 \geq 5 \text{ \& } n(1-p_0) \geq 5$			<b>תנאים:</b>
$Z_{\hat{p}} > Z_{1-\alpha}$  $Z_{1-\alpha}$ <b>דוחים את <math>H_0</math></b>	$Z_{\hat{p}} < -Z_{1-\alpha}$  $-Z_{1-\alpha}$ <b>דוחים את <math>H_0</math></b>	או $Z_{\hat{p}} < -Z_{1-\frac{\alpha}{2}}$ $Z_{\hat{p}} > Z_{1-\frac{\alpha}{2}}$  $-Z_{1-\frac{\alpha}{2}}$ $Z_{1-\frac{\alpha}{2}}$ <b>דוחים את <math>H_0</math></b>	<b>כלל הכרעה: אזור הדחייה של <math>H_0</math></b>

$$Z_{\hat{p}} = \frac{\hat{p} - p_0}{\sqrt{\frac{p_0(1-p_0)}{n}}} \quad \text{סטטיסטי המבחן:}$$

חלופה אחרת לכלל הכרעה:

כלל הכרעה – אזור הדחייה של $H_0$ :		
$\hat{p} > p_0 + Z_{1-\alpha} \cdot \sqrt{\frac{p_0(1-p_0)}{n}}$	$\hat{p} < p_0 - Z_{1-\alpha} \cdot \sqrt{\frac{p_0(1-p_0)}{n}}$	$\hat{p} > p_0 + Z_{1-\frac{\alpha}{2}} \cdot \sqrt{\frac{p_0(1-p_0)}{n}}$ $\hat{p} < p_0 - Z_{1-\frac{\alpha}{2}} \cdot \sqrt{\frac{p_0(1-p_0)}{n}}$

דוגמה (פתרון בהקלטה):

בחודש ינואר השנה פורסם שאחוז האבטלה במשק הוא 8% במדגם עכשווי התקבל שמתוך 200 אנשים 6.5% מובטלים. בדקו ברמת מובהקות של 5% האם כיום אחוז האבטלה הוא כמו בתחילת השנה.

## שאלות:

- (1) במשך שנים אחוז המועמדים שהתקבל לפקולטה מסוימת היה 25%. השנה מתוך מדגם של 120 מועמדים התקבלו 22. ברמת מובהקות של 5% האם השנה הקשו על תנאי הקבלה?
- (2) במדגם של 300 אזרחים 57% מתנגדים להצעת חוק מסוימת. לאור נתונים אלה האם רוב האזרחים מתנגדים להצעת החוק? בדקו ברמת מובהקות של 10%.
- (3) הטילו מטבע 50 פעמים וקיבלו 28 פעמים עץ. האם המטבע הוגן ברמת מובהקות של 5%?
- (4) קפיטריה במכללה מסוימת מעריכה כי אחוז הסטודנטים שקונים קפה בקפיטריה הינו 20%. נערך סקר אשר כלל 200 סטודנטים. התברר כי 33 מהם רוכשים קפה בקפיטריה. מטרת הסקר הייתה לבדוק את אמיתות הערכה של הקפיטריה.  
 א. רשמו את ההשערות.  
 ב. בדקו את ההשערות ברמת מובהקות של 10%.  
 ג. מה תהיה המסקנה אם נקטין את רמת המובהקות?
- (5) חבר כנסת רוצה להעביר חוק. לצורך כך הוא דוגם 400 אזרחים במטרה לבדוק האם רוב האזרחים תומכים בחוק. במדגם התקבל ש-276 אזרחים תומכים בחוק.  
 א. מה מסקנתכם ברמת מובהקות של 5%?  
 ב. האם ניתן לדעת מה תהיה המסקנה אם רמת המובהקות תהיה גדולה יותר? הסבירו.
- (6) שני חוקרים בדקו את ההשערות הבאות:  $H_0: p = p_0$ ,  $H_1: p > p_0$ . חוקר א' השתמש ברמת מובהקות  $\alpha_1$  וחוקר ב' ברמת מובהקות  $\alpha_2$  החוקר הראשון דחה את  $H_0$  ואילו החוקר השני קיבל את  $H_0$ . שניהם התבססו על אותם תוצאות של מדגם. בחר בתשובה הנכונה:  
 א.  $\alpha_1 = \alpha_2$ .  
 ב.  $\alpha_1 > \alpha_2$ .  
 ג.  $\alpha_1 < \alpha_2$ .  
 ד. המצב המתואר לא אפשרי.

### תשובות סופיות:

- (1) נדחה  $H_0$ .
- (2) נדחה  $H_0$ .
- (3) נקבל  $H_0$ .
- (4) א.  $H_0: p = 0.2$   
 ב.  $H_1: p \neq 0.2$   
 ג. המסקנה לא תשתנה.
- (5) א. נדחה  $H_0$ .  
 ב. המסקנה לא תשתנה.
- (6) ג'.

## מובהקות התוצאה – אלפא מינימלית:

### רקע:

דרך נוספת להגיע להכרעות שלא דרך כלל הכרעה, היא דרך חישוב מובהקות התוצאה: באמצעות תוצאות המדגם מחשבים את מובהקות התוצאה שמסומן ב-  $p_v$ . את רמת המובהקות החוקר קובע מראש לעומת זאת, את מובהקות התוצאה החוקר יוכל לחשב רק אחרי שיהיו לו את התוצאות. המסקנה של המחקר תקבע לפי העיקרון הבא:

אם  $p_v \leq \alpha$  דוחים את  $H_0$ .

מובהקות התוצאה זה הסיכוי לקבלת תוצאות המדגם וקיצוני מתוצאות אלה בהנחת השערת האפס.

לקבל את תוצאות המדגם וקיצוני  $p_v = P_{H_0}$ .

אם ההשערה היא דו צדדית:

לקבל את תוצאות המדגם וקיצוני  $p_v = 2P_{H_0}$ .

מובהקות התוצאה היא גם האלפא המינימלית לדחיית השערת האפס.

$H_0: p = p_0$ $H_1: p > p_0$	$H_0: p = p_0$ $H_1: p < p_0$	$H_0: p = p_0$ $H_1: p \neq p_0$	השערת האפס: השערה אלטרנטיבית:
$np_0 \geq 5 \& n(1-p_0) \geq 5$			תנאים:
$P_{H_0}(\hat{P} \geq \hat{p})$	$P_{H_0}(\hat{P} \leq \hat{p})$	אם $2 \cdot P_{H_0}(\hat{P} \geq \hat{p}) \leftarrow \hat{p} > p_0$ אם $2 \cdot P_{H_0}(\hat{P} \leq \hat{p}) \leftarrow \hat{p} < p_0$	p-value

כאשר בהנחת השערת האפס:  $\hat{P} \sim N\left(p_0, \frac{p_0(1-p_0)}{n}\right)$

התקנון:  $Z_{\hat{p}} = \frac{\hat{p} - p_0}{\sqrt{\frac{p_0(1-p_0)}{n}}}$

**דוגמה (פתרון בהקלטה):**

ישנה טענה שיש הבדל בין אחוז הבנים ואחוז הבנות הפונים ללמוד להנדסאי מחשבים. לשם כך נלקח מדגם מקרי של 200 תלמידים הלומדים מחשבים והתברר כי 112 מהם בנים.

א. מהי מובהקות התוצאה?

ב. מה המסקנה ברמת מובהקות של 5%?

## שאלות:

- (1) במשך שנים אחוז המועמדים שהתקבל לפקולטה מסוימת היה 25%. השנה מתוך מדגם של 120 מועמדים התקבלו 22. רוצים לבדוק האם השנה הקשו על תנאי הקבלה.  
 א. מהי מובהקות התוצאה?  
 ב. מה תהיה המסקנה ברמת מובהקות של 1% וברמת מובהקות של 5%?
- (2) נהוג לחשוב ש-60% מהילדים בגיל שלוש קמים מהמיטה במהלך הלילה לפחות פעם אחת. ישנה טענה שללא שנת צהריים פחות מ-60% מהילדים בגיל זה יקומו לפחות פעם אחת במהלך הלילה. נדגמו 80 ילדים בגיל 3 אשר אינם ישנים בצהריים מתוכם התקבל ש-41 קמו במהלך הלילה.  
 א. מהי רמת המובהקות המינימלית עבורה תתקבל הטענה במחקר?  
 ב. מהי רמת המובהקות המקסימלית עבורה לא תתקבל טענת המחקר?  
 ג. עבור אילו רמות מובהקות נקבל את טענת המחקר?  
 ד. מה תהיה מסקנת המחקר ברמת מובהקות של 6%?
- (3) במטרה לבדוק האם מטבע הוא הוגן מטילים אותו 80 פעמים. התקבל ש-60 מההטלות הראו עץ. רשמו את השערות המחקר, חשבו את מובהקות התוצאה והסיקו מסקנה ברמת מובהקות של 5%.
- (4) בבדיקת השערות על פרופורציה התקבל שה- $p\text{-value} = 0.02$ .  
 מה תהיה מסקנת חוקר המשתמש ברמת מובהקות 5%:  
 (בחרו בתשובה הנכונה)  
 א. יקבל את השערת האפס  
 ב. ידחה את השערת האפס.  
 ג. לא ניתן לדעת כי אין מספיק נתונים.
- (5) קבעו אם הטענה הבאה נכונה:  
 "במבחן לבדיקת השערות חד-צדדי התקבל ערך  $p\text{-value}$  של 3%,  
 לכן אם היינו מבצעים מבחן דו-צדדי (כאשר יתר הנתונים ללא שינוי),  
 היינו מקבלים ערך  $p\text{-value}$  של 6%".
- (6) במפעל 10% מהעובדים נפגעים לפחות פעם אחת בשנה מתאונות עבודה. לאור זאת, המפעל החליט לצאת בתוכנית לצמצום שיעור הנפגעים. תכנית זו נוסתה על 100 עובדים. מתוכם 12 נפגעו בתאונות עבודה במשך השנה. מהי רמת המובהקות הקטנה ביותר עבורה יוחלט שהתכנית יעילה?

**תשובות סופיות:**

- (1) א. 0.0455.  
ב. ברמת מובהקות של 1% : לא דוחים את  $H_0$ .  
ברמת מובהקות של 5% : נדחה את  $H_0$ .
- (2) א. 0.0548. ב. 0.0548. ג. מעל 0.0548.  
ד. נכריע לטובת טענת המחקר.
- (3)  $p_v = 0$ , נדחה את  $H_0$ .
- (4) ב'.
- (5) הטענה נכונה.
- (6) 0.7486.

## מבוא לסטטיסטיקה



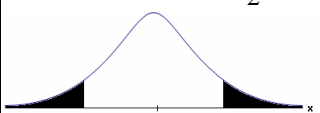
פרק 27 - בדיקת השערות על הפרש תוחלות במדגמים בלתי תלויים

תוכן העניינים

- 145 ..... 1. כששונויות האוכלוסייה ידועות.
- 149 ..... 2. כששונויות האוכלוסייה לא ידועות ומניחים שהן שוות.
- 153 ..... 3. ניתוח פלטים.

## בדיקת השערות על הפרש תוחלות במדגמים בלתי תלויים

כשהשונות של האוכלוסייה ידועות – רקע

$H_0 \mu_1 - \mu_2 = c$ $H_1 \mu_1 - \mu_2 > c$	$H_0 \mu_1 - \mu_2 = c$ $H_1 \mu_1 - \mu_2 < c$	$H_0 \mu_1 - \mu_2 = c$ $H_1 \mu_1 - \mu_2 \neq c$	השערת האפס: השערה אלטרנטיבית:
מדגמים בלתי תלויים $\sigma_1, \sigma_2$ ידועות $X_1, X_2 \sim N$ או מדגמים מספיק גדולים			<b>תנאים:</b>
$Z_{\bar{x}_1 - \bar{x}_2} > Z_{1-\alpha}$  $Z_{1-\alpha}$ דוחים את $H_0$	$Z_{\bar{x}_1 - \bar{x}_2} < -Z_{1-\alpha}$  $-Z_{1-\alpha}$ דוחים את $H_0$	או $Z_{\bar{x}_1 - \bar{x}_2} < -Z_{1-\frac{\alpha}{2}}$ $Z_{\bar{x}_1 - \bar{x}_2} > Z_{1-\frac{\alpha}{2}}$  $-Z_{1-\frac{\alpha}{2}} \quad Z_{1-\frac{\alpha}{2}}$ דוחים את $H_0$	<b>כלל הכרעה:</b> אזור הדחייה של $H_0$

$$Z_{\bar{x}_1 - \bar{x}_2} = \frac{\bar{x}_1 - \bar{x}_2 - c}{\sqrt{\frac{\sigma_1^2}{n_1} + \frac{\sigma_2^2}{n_2}}} \quad \text{סטטיסטי המבחן:}$$

חלופה אחרת לכלל הכרעה:

נדחה $H_0$ אם מתקיים :	
$\bar{x}_1 - \bar{x}_2 > c + Z_{1-\alpha} \cdot \sqrt{\frac{\sigma_1^2}{n_1} + \frac{\sigma_2^2}{n_2}}$	$\bar{x}_1 - \bar{x}_2 > c + Z_{1-\alpha/2} \cdot \sqrt{\frac{\sigma_1^2}{n_1} + \frac{\sigma_2^2}{n_2}}$ <p style="text-align: center;">או</p> $\bar{x}_1 - \bar{x}_2 < c - Z_{1-\alpha/2} \cdot \sqrt{\frac{\sigma_1^2}{n_1} + \frac{\sigma_2^2}{n_2}}$
$\bar{x}_1 - \bar{x}_2 < c - Z_{1-\alpha} \cdot \sqrt{\frac{\sigma_1^2}{n_1} + \frac{\sigma_2^2}{n_2}}$	

התפלגות הפרש הממוצעים:  $\bar{x}_1 - \bar{x}_2 \sim N(\mu_1 - \mu_2, \frac{\sigma_1^2}{n_1} + \frac{\sigma_2^2}{n_2})$

$$Z_{\bar{x}_1 - \bar{x}_2} = \frac{\bar{x}_1 - \bar{x}_2 - (\mu_1 - \mu_2)}{\sqrt{\frac{\sigma_1^2}{n_1} + \frac{\sigma_2^2}{n_2}}} \quad \text{התקנון:}$$

**דוגמה (פתרון בהקלטה) :**

בשנת 2004 הפער בין השכר הממוצע של הגברים לנשים היה 3000₪ לטובת הגברים. מעוניינים לבדוק האם כיום הצטמצם הפער בין הגברים לנשים מבחינת השכר הממוצע. נדגמו 100 עובדים גברים. שכרם הממוצע היה 9,072₪. נדגמו 80 עובדות, שכרן הממוצע היה 7809₪. לצורך פתרון נניח שסטיות התקן של השכר ידועות ושוות ל-2000₪ באוכלוסיית הנשים ו-3000₪ באוכלוסיית הגברים. מה המסקנה ברמת מבוהקות של 5%?

**שאלות**

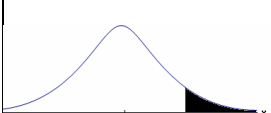
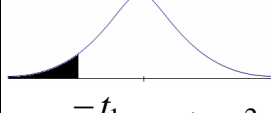
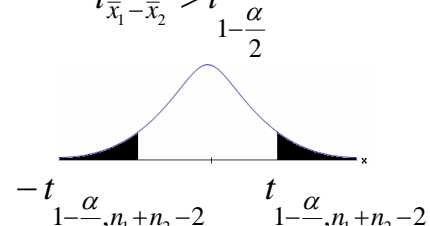
- (1) מחקר טוען שאנשים החיים במרכז הארץ צופים בממוצע בטלוויזיה יותר מאנשים שלא חיים במרכז. נדגמו 100 אנשים מהמרכז ו-107 אנשים לא מהמרכז. אנשים אלה נשאלו כמה שעות ביום הם נוהגים לצפות בטלוויזיה. במדגם של מרכז הארץ התקבל ממוצע 2.7 שעות. במדגם של מחוץ למרכז הארץ התקבל ממוצע 1.8 שעות. לצורך פתרון הניחו שבכל אזור, סטיית התקן היא שעה 1 ביום. בדקו את טענת המחקר ברמת מובהקות של 1%.
- (2) ציוני פסיכומטרי מתפלגים נורמלית עם סטיית תקן 100. מכון ללימוד פסיכומטרי טוען שהוא יכול לשפר את ממוצע הציונים ביותר מ-30 נקודות. במדגם של 20 נבחנים שניגשו למבחן ללא הכנה במכון התקבל ממוצע 508. במדגם של 25 נבחנים שעברו הכנה במכון התקבל ממוצע ציונים 561. מה מסקנתכם ברמת מובהקות של 5%.

**תשובות סופיות**

- (1) נדחה  $H_0$ .
- (2) לא נדחה את  $H_0$ .

## בדיקת השערות על הפרש תוחלות במדגמים בלתי תלויים

כששונויות האוכלוסייה לא ידועות ומניחים שהן שוות – רקע

$H_0 \quad \mu_1 - \mu_2 = c$ $H_1 \quad \mu_1 - \mu_2 > c$	$H_0 \quad \mu_1 - \mu_2 = c$ $H_1 \quad \mu_1 - \mu_2 < c$	$H_0 \quad \mu_1 - \mu_2 = c$ $H_1 \quad \mu_1 - \mu_2 \neq c$	השערת האפס: השערה אלטרנטיבית: תנאים:
1. מדגמים בלתי תלויים 2. $\sigma_1, \sigma_2$ לא ידועות אך שוות 3. המשתנים בכל אוכלוסייה מתפלגים נורמלית			
$t_{\bar{x}_1 - \bar{x}_2} > t_{1-\alpha}^{(n_1+n_2-2)}$  $t_{1-\alpha, n_1+n_2-2}$ דוחים את $H_0$	$t_{\bar{x}_1 - \bar{x}_2} < -t_{1-\alpha}^{(n_1+n_2-2)}$  $-t_{1-\alpha, n_1+n_2-2}$ דוחים את $H_0$	$t_{\bar{x}_1 - \bar{x}_2} < -t_{1-\frac{\alpha}{2}}^{(n_1+n_2-2)}$ או $t_{\bar{x}_1 - \bar{x}_2} > t_{1-\frac{\alpha}{2}}^{(n_1+n_2-2)}$  $-t_{1-\frac{\alpha}{2}, n_1+n_2-2}$ $t_{1-\frac{\alpha}{2}, n_1+n_2-2}$ דוחים את $H_0$	אזור הדחייה של $H_0$

$$t_{\bar{x}_1 - \bar{x}_2} = \frac{(\bar{x}_1 - \bar{x}_2) - c}{\sqrt{\frac{S_p^2}{n_1} + \frac{S_p^2}{n_2}}}$$

סטטיסטי המבחן:

$$S_p^2 = \frac{(n_1 - 1)S_1^2 + (n_2 - 1)S_2^2}{n_1 + n_2 - 2}$$

השונויות המשוקללת:

## חלופה אחרת לכלל הכרעה:

נדחה $H_0$ אם מתקיים:	
$\bar{x}_1 - \bar{x}_2 < c - t_{1-\alpha}^{(n_1+n_2-2)} \cdot \sqrt{\frac{S_p^2}{n_1} + \frac{S_p^2}{n_2}}$	$\bar{x}_1 - \bar{x}_2 > c + t_{1-\frac{\alpha}{2}}^{(n_1+n_2-2)} \cdot \sqrt{\frac{S_p^2}{n_1} + \frac{S_p^2}{n_2}}$ <p style="text-align: center;">או</p> $\bar{x}_1 - \bar{x}_2 < c - t_{1-\frac{\alpha}{2}}^{(n_1+n_2-2)} \cdot \sqrt{\frac{S_p^2}{n_1} + \frac{S_p^2}{n_2}}$
$\bar{x}_1 - \bar{x}_2 > c + t_{1-\alpha}^{(n_1+n_2-2)} \cdot \sqrt{\frac{S_p^2}{n_1} + \frac{S_p^2}{n_2}}$	

## דוגמה (פתרון בהקלטה):

חברה המייצרת מוצרי בנייה טוענת שפיתחה סגסוגת (תערובת מתכות) שטמפרטורת ההתכה שלה גבוהה משמעותית מטמפרטורת ההתכה של הסגסוגת לבנייה שמשמשים בה כיום לבניית בניינים. לצורך בדיקת טענת המחקר נדגמו 10 יחידות של מתכות מהסוג הישן ו-12 יחידות של מתכות מהסוג החדש. להלן תוצאות המדגם:

טמפרטורת ההתכה הממוצעת במתכת הישנה 1170 מעלות עם אומד חסר הטיה לשונות  $S^2 = 200$ .

טמפרטורת ההתכה הממוצעת במתכת החדשה 1317 מעלות עם אומד חסר הטיה לשונות  $S^2 = 260$ .

נניח לצורך פתרון שטמפרטורת ההתכה מתפלגת נורמאלית עם אותה שונות במתכות השונות. בדקו ברמת מובהקות של 5%.

## שאלות

1) להלן נתונים של שטחי דירות מתוך דירות שנבנו בשנת 2012 ובשנת 2013 (במ"ר):

120	94	90	130	95	112	120	2012
	69	74	105	91	82	100	2013

בדקו שבשנת 2013 הייתה ירידה משמעותית בשטחי הדירות לעומת שנת 2012 עבור רמת מובהקות של 5%.  
הניחו ששטחי הדירות בכל שנה מתפלגים נורמלית עם אותה שונות.

2) נדגמו 15 ישראלים ו-15 אמריקאים. כל הנדגמים נגשו למבחן IQ. להלן תוצאות המדגם:

המדינה	ישראל	ארה"ב
גודל המדגם	15	15
סכום הציונים	1560	1470
סכום ריבועי הציונים	165,390	147,560

בדקו ברמת מובהקות של 5% האם קיים הבדל של נקודה בין ישראלים לאמריקאים מבחינת ממוצע הציונים במבחן ה-IQ לטובת ישראל. רשמו את כל ההנחות הדרושות לצורך פתרון התרגיל.

3) להלן תוצאות מדגם הבדק אורך חיים של נורות מסוג W60 ומסוג W100. אורך החיים נמדד בשעות.

100W	60W	הקבוצה
956	1007	$\bar{x}$
72	80	$S$
15	13	$n$

- א. בדקו ברמת מובהקות של 5% האם נורות מסוג W60 דולקות בממוצע יותר מאשר נורות מסוג W100. רשמו את כל ההנחות הדרושות לפתרון.
- ב. עבור איזו רמת מובהקות ניתן לקבוע שנורות מסוג W60 דולקות בממוצע יותר מאשר נורות מסוג 100?
- ג. בדקו ברמת מובהקות של 5% האם נורות מסוג W60 דולקות יותר מ 1000 שעות. רשמו את כל ההנחות הדרושות.

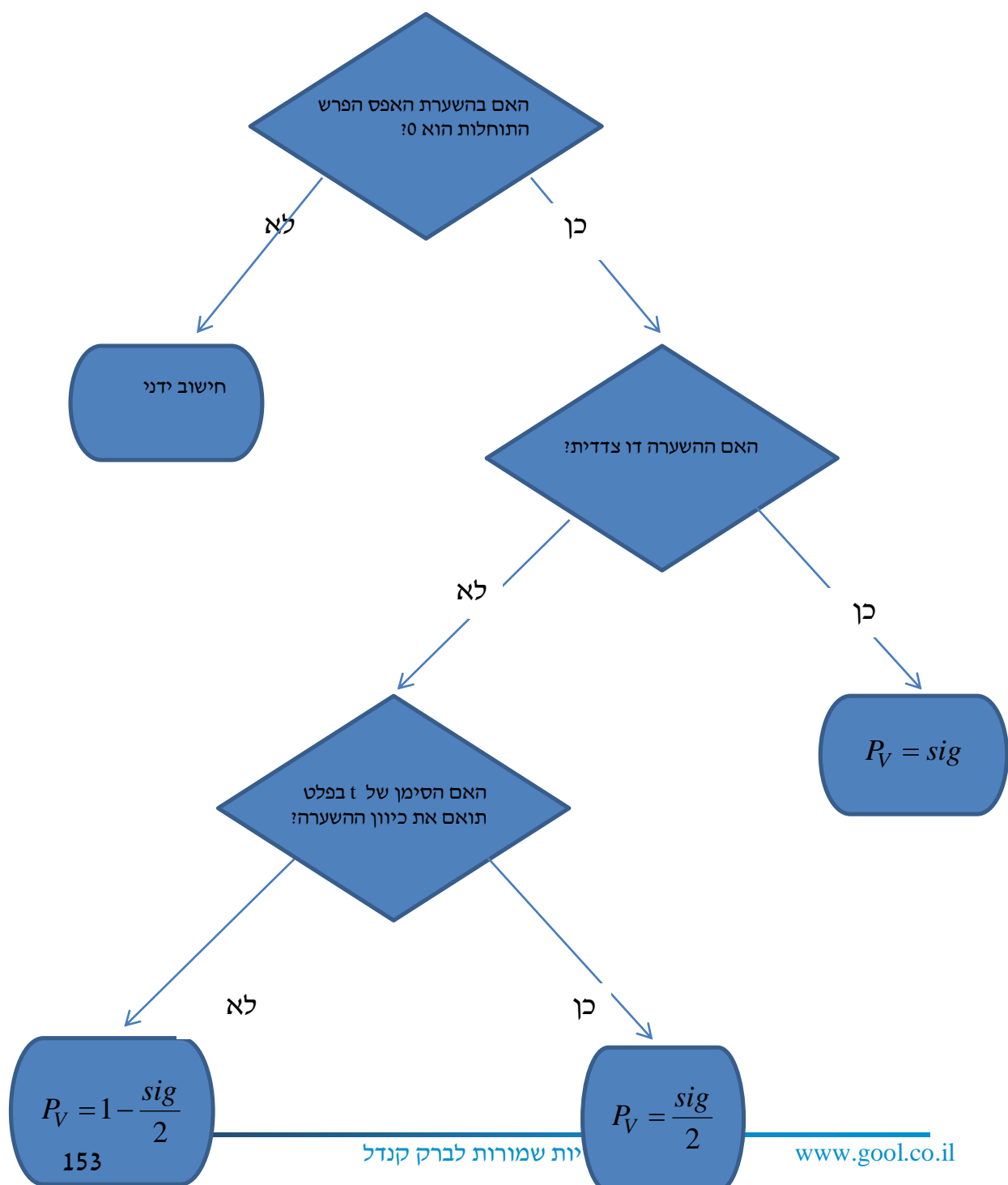
**תשובות סופיות**

- (1) נדחה את  $H_0$ .
- (2) הנחות:  
1. סטיות התקן שוות.  
2. המשתנים מתפלגים נורמלית.  
נקבל את  $H_0$ .
- (3) א. נדחה את  $H_0$ .  
ב. רמת מובהקות של לפחות 5%.  
ג. לא נדחה את  $H_0$ .

## בדיקת השערות על הפרש תוחלות במדגמים בלתי תלויים

### ניתוח פלטים – רקע

מובהקות התוצאה על סמך הפלט:



### דוגמה (פתרון בהקלטה) :

בסקר שנערך בארה"ב בשנת 1993 נשאלו נסקרים משני אזורים שונים במדינה על מס' האחים והאחיות שלהם. להלן הפלט שהתקבל :

Group Statistics

	Region of the United States	N	Mean	Std. Deviation	Std. Error Mean
Number of Brothers and Sisters	North East	676	3.76	2.939	.113
	South East	410	4.05	2.993	.148

Independent Samples Test

		Levene's Test for Equality of Variances		t-test for Equality of Means						
		F	Sig.	t	df	Sig. (2-tailed)	Mean Difference	Std. Error Difference	95% Confidence Interval of the Difference	
									Lower	Upper
Number of Brothers and Sisters	Equal variances assumed	.173	.677	-1.583	1084	.114	-.293	.185	-.657	.070
	Equal variances not assumed			-1.576	850.945	.115	-.293	.186	-.658	.072

- א. מהו המבחן הסטטיסטי שנעשה כאן?
- ב. בדוק ברמת מובהקות של 5% האם קיים שוויון שונויות בין שני האזורים?
- ג. בדוק האם קיים הבדל בין "South East" ל-"North East" ברמת מובהקות של 5% מבחינת מספר האחים והאחיות הממוצע.
- ד. מהי מובהקות התוצאה לבדיקת הטענה שהפרש הממוצע בין "South East" לבין "North East" חיובי?

## שאלות

1) להלן פלט מתוכנת SPSS מתוך מחקר שבחן את רמת האופטימיות של גברים ונשים. רמת האופטימיות נמדדה בסולם ציונים של 1 עד 5.

Group Statistics

GENDER		N	Mean	Std. Deviation	Std. Error Mean
optimizm	MALE	633	2.6053	.49781	.01979
	FEMALE	568	2.5503	.48483	.02034

Independent Samples Test

		Levene's Test for Equality of Variances		t-test for Equality of Means						
		F	Sig.	t	df	Sig. (2-tailed)	Mean Difference	Std. Error Difference	95% Confidence Interval of the Difference	
									Lower	Upper
optimizm	Equal variances assumed	.383	.536	1.935	1199	.053	.05500	.02842	-.00076	?
	Equal variances not assumed			1.938	1190.977	.053	.05500	.02838	-.00068	.11067

- א. האם ניתן להניח ששוונות האופטימיות של נשים וגברים שווה ברמת מובהקות של 5%?
- ב. ברמת מובהקות של 5% האם קיים הבדל בין הנשים לגברים ברמת האופטימיות הממוצעת שלהם?
- ג. מצא את הגבול העליון של רווח הסמך המסומן בסימן שאלה בפלט. דייק עד 5 ספרות אחרי הנקודה.
- ד. בנה רווח סמך לתוחלת רמת האופטימיות של הגברים ברמת סמך של 95%.

2) פסיכולוגים טוענים שאנשים שניגשים למבחן אינטליגנציה יותר מפעם אחת נוטים לקבל ציונים גבוהים יותר. להלן הפלט שהתקבל:

### Group Statistics

		N	Mean	Std. Deviation	Std. Error Mean
grade	A	9	96.8889	9.40006	3.13335
	B	11	108.4545	11.46616	3.45718

		Levene's Test for Equality of Variances		t-test for Equality of Means						
		F	Sig.	t	df	Sig. (2-tailed)	Mean Difference	Std. Error Difference	95% Confidence Interval of the Difference	
									Lower	Upper
grade	Equal variances assumed	.206	.656	-2.428	18	.026	-11.56566	4.76333	-21.57304	-1.55828
	Equal variances not assumed			-2.479	17.997	.023	-11.56566	4.66583	-21.36832	-1.76299

T-Test

מקרא:

A = נגשו פעם אחת.

B = נגשו יותר מפעם אחת.

- רשמו את השערות המחקר והסבירו מהו המבחן המתאים כאן.
- כיצד הייתה משתנה התשובה לסעיף הקודם אם היה מדובר על אותם אנשים שציונם נבדק פעם אחרי המבחן הראשון שעשו ופעם אחרי המבחן השני?
- האם ניתן לומר כי מידת הפיזור של ציוני אנשים הנבחנים בפעם הראשונה שונה ממידת הפיזור של ציוני האנשים אשר נבחנים בפעם השנייה. בדוק ברמת מובהקות של  $\alpha = 0.05$ .
- האם נכונה טענת הפסיכולוגים ברמת מובהקות של  $\alpha = 0.01$ .

3) כחלק ממחקר בנושא הנישואין בישראל, אחד החוקרים העלה השערה שיש הבדל בממוצע גיל הנישואין (הראשונים), בין נשים הגרות בערים מרכזיות לבין נשים הגרות בערים מרוחקות מהמרכז. לשם כך נדגמו 50 כלות מכל אחת משתי ערים עיר א'-מרכזית ועיר ב'-מרוחקת ונרשם גילן. תוצאות עיבוד הנתונים מופיעות בטבלאות שלהלן:

## T-Test

Group Statistics

מקום המגורים	N	Mean	Std. Deviation	Std. Error Mean
גיל הנישואין עיר א	50	24.8072	1.38978	.19654
עיר ב	50	23.0131	1.62070	.22920

Independent Samples Test

	Levene's Test for Equality of Variances		t-test for Equality of Means							
	F	Sig.	t	df	Sig. (2-tailed)	Mean Difference	Std. Error Difference	95% Confidence Interval of the Difference		
								Lower	Upper	
גיל הנישואין	Equal variances assumed	.330	.567	5.942	98	.000	1.79415	.30193	1.19497	2.39332
	Equal variances not assumed			5.942	95.772	.000	1.79415	.30193	1.19480	2.39350

- א. מהו המבחן הסטטיסטי שנעשה כאן?  
 ב. מצא רווח סמך ברמת סמך של 95% להפרש בין עיר א לעיר ב מבחינת גיל הנשים הממוצע בנישואין הראשונים.  
 ג. האם ניתן לומר ברמת מובהקות של 1% שנשים בערים מרכזיות מתחתנות בגיל מאוחר יותר מאשר נשים הגרות בערים מרוחקות?

4) להלן פלט של תוכנת SPSS:

**T-Test**

	N	Mean	Std. Deviation	Std. Error Mean
X	26	36.3077	13.23259	2.59513
Y	24	46.4583	20.96369	4.27920

**Independent Samples Test**

	Levene's Test for Equality of Variances		t-test for Equality of Means						
	F	Sig.	t	df	Sig. (2-tailed)	Mean Difference	Std. Error Difference	95% Confidence Interval of the Difference	
								Lower	Upper
Equal variances assumed	4.446	.040	-2.164	???	.044	-10.15064	???	-20.03781	-.26347
Equal variances not assumed			-2.038	38.267	.048	???	5.00462	-20.27964	-.02164

- א. השלימו את סימני השאלה בטבלה.
- ב. מהי מובהקות התוצאה לבדיקת הטענה שקיים הבדל בין השונות של  $X$  לזה של  $Y$ ?
- ג. מהי מובהקות התוצאה לבדיקת הטענה שהתוחלת של  $X$  גדולה מהתוחלת של  $Y$ ?
- ד. מהי מובהקות התוצאה לבדיקת הטענה שהתוחלת של  $X$  קטנה מהתוחלת של  $Y$ ?

### תשובות סופיות

- (1) א. נקבל את  $H_0$  ונכריע שיש שוויון שוניות.  
 ב. נקבע שלא קיים הבדל בין נשים לגברים מבחינת האופטימיות הממוצעת.  
 ג. 0.11076  
 ד.  $2.5665 \leq \mu \leq 2.6441$ .
- (2) א. מבחן T להפרש ממוצעים במדגמים בלתי תלויים.  
 ב. מבחן T למדגמים מזווגים.  
 ג. נקבל את  $H_0$ , נקבע לקיום שוויון שוניות.  
 ד. נקבל את  $H_0$ , לא נקבל את טענת הפסיכולוגים.
- (3) א. מבחן T להשוואת תוחלת במדגמים בלתי תלויים.  
 ב.  $1.19497 \leq \mu_1 - \mu_2 \leq 2.39332$  ג. כן.
- (4) א. 10.15, 4.69, -48  
 ב. 0.04  
 ג. 0.978  
 ד. 0.022

# מבוא לסטטיסטיקה

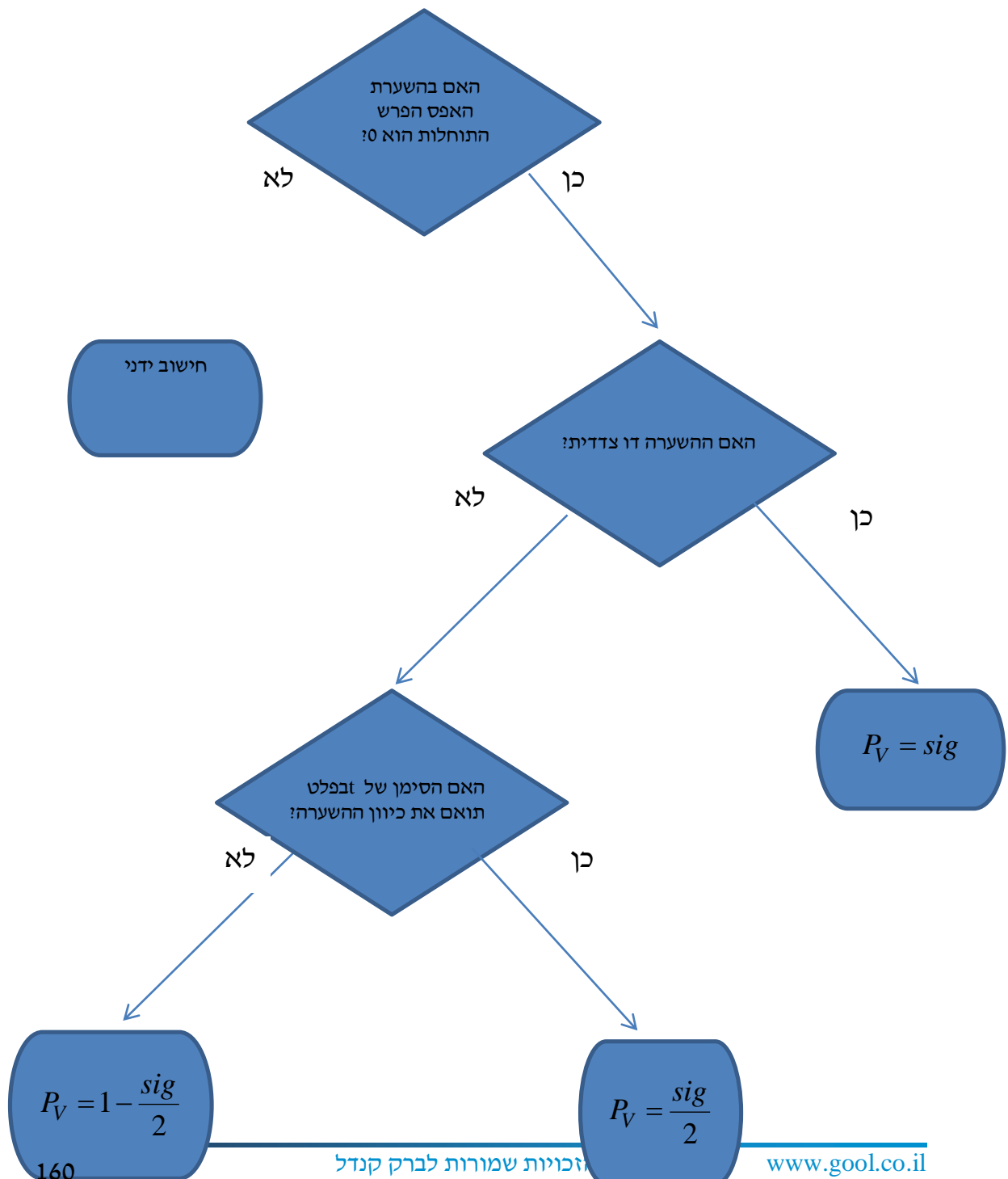
פרק 28 - בדיקת השערות לתוחלת ההפרש במדגמים מזווגים

תוכן העניינים

1. ניתוח פלטים.....160

## בדיקת השערות על תוחלת ההפרשים במדגמים מזווגים (תלויים)

מדגמים מזווגים – ניתוח פלטים – רקע



### דוגמה (פתרון בהקלטה) :

כדי לבדוק את ההשפעה של קורס לגמילה מעישון נלקח מדגם מקרי של 5 נבדקים. עבור כל אחד מהם נמדדה צריכת הסיגריות היומית לפני הקורס וחודשיים אחריו. הניחו שצריכת הסיגריות מתפלגת נורמלית. להלן התוצאות :

5	4	3	2	1	נבדק
30	28	25	22	40	לפני
12	10	13	24	30	אחרי

#### Paired Samples Statistics

	Mean	N	Std. Deviation	Std. Error Mean
Pair 1 BEFORE	29.0000	5	6.85565	3.06594
AFTER	17.8000	5	8.72926	3.90384

#### Paired Samples Test

	Paired Differences					t	df	Sig. (2-tailed)
	Mean	Std. Deviation	Std. Error Mean	90% Confidence Interval of the Difference				
				Lower	Upper			
Pair 1 BEFORE - AFTER	11.20000	8.19756	3.66606	3.38452	19.01548	3.055	4	.038

בדקו ברמת מובהקות של 5% האם הקורס יעיל.

## שאלות

1) בסקר שנערך בארה"ב בשנת 1993 נשאלו נסקרים על השכלת הוריהם, להלן הפלט שהתקבל:

Paired Samples Test									
		Paired Differences					t	df	Sig. (2-tailed)
		Mean	Std. Deviation	Std. Error Mean	95% Confidence Interval of the Difference				
					Lower	Upper			
Pair 1	Highest Year School Completed, Father - Highest Year School Completed, Mother	-.007	3.115	.100	-.203	.189	-.072	973	.943

- א. תנו אומדן להפרש הממוצעים.  
 ב. תנו אומדן לטעות התקן של הפרש הממוצעים.  
 ג. האם קיים הבדל מובהק בין השכלת האבות להשכלת האימהות ברמת מובהקות של 5%?

2) בתחרות קפיצה למים שופטים באופן קבוע שופט איטלקי ושופט דרום קוריאני. להלן פלט המנתח את הציונים ששופטים אלה נתנו בתחרויות השונות:

Paired Samples Statistics					
		Mean	N	Std. Deviation	Std. Error Mean
Pair 1	Italy	???	300	.86742	.05008
	South Korea	8.9183	???	.81992	.04734

Paired Samples Test									
		Paired Differences					t	df	Sig. (2-tailed)
		Mean	Std. Deviation	Std. Error Mean	95% Confidence Interval of the Difference				
					Lower	Upper			
Pair 1	Italy - South Korea	-.42233	.36153	.02087	-.46341	-.38126	-20.234	???	???

- א. השלימו את החלקים החסרים בפלט (מסומנים בסימני שאלה).  
 ב. בדקו את הטענה שהשופט הדרום קוריאני נותן בממוצע 0.2 נקודות יותר מאשר השופט האיטלקי ברמת מובהקות של 5%.  
 ג. מהו רווח הסמך ברמת סמך של 95% לתוחלת פער הציונים בין השופטים?  
 ד. בנו את הרווח כעת ברמת סמך של 98% לתוחלת פער בציונים בין השופטים.

3) בדקו את ציוניהם של 44 נבדקים אקראיים במבחן הפסיכומטרי. פעם אחת לפני הכנה (Before) ופעם אחת אחרי הכנה (After).

Paired Samples Test									
		Paired Differences				t	df	Sig. (2-tailed)	
		Mean	Std. Deviation	Std. Error Mean	95% Confidence Interval of the Difference				
					Lower	Upper			
Pair 1	Before - After	-7.45455	19.28303	2.90703	-13.31712	-1.59197	-2.564	43	.014

- א. רשמו מהו המבחן הסטטיסטי ונסח את ההשערות אליהם מתייחס הפלט.
- ב. בדקו את ההשערה שממוצע ציונים משתפרים לאחר ההכנה ברמת מובהקות של 5%.
- ג. בדקו את ההשערה שממוצע ציונים משתפרים לאחר ההכנה ביותר מ-5 נקודות ברמת מובהקות של 5%.
- ד. מצאו רווח סמך לתוחלת שיפור ממוצע הציונים לאחר ההכנה ברמת ביטחון של 95%.

(4) להלן פלט של תכנת SPSS:

## T-Test

## Paired Samples Statistics

	Mean	N	Std. Deviation	Std. Error Mean
Pair 1 x	54.0000	6	5.86515	2.39444
Pair 1 y	46.5000	6	10.72847	4.37988

## Paired Samples Test

	Paired Differences					t	df	Sig. (2-tailed)
	Mean	Std. Deviation	Std. Error Mean	95% Confidence Interval of the Difference				
				Lower	Upper			
Pair 1 x - y	7.50000	??	4.72405	-4.64356	19.64356	??	5	.173

- מלא את החלקים החסרים בטבלה.
- מהי רמת המובהקות המינימלית לקבלת הטענה שיש הבדל בין  $X$  ל- $Y$  בממוצע?
- האם התשובה לסעיף הקודם הייתה משתנה, ואם כן גדלה או קטנה, אם הינו מוסיפים עוד תצפית שההפרש בין  $X$  ל- $Y$  הוא 0.
- מהי מובהקות התוצאה לבדיקת הטענה ש  $X$  גדול מ- $Y$  בממוצע?
- מהי מובהקות התוצאה לבדיקת הטענה ש  $X$  קטן מ- $Y$  בממוצע?
- בנו רווח סמך לתוחלת של  $X$  ברמת סמך של 90%.

### תשובות סופיות

- (1) א. -0.007      ב. 0.1      ג. אין הבדל מובהק.
- (2) א.  $d.f = 299$       ב.  $n = 300$       ג.  $\bar{X} = 8.496$ ,  $\text{Sig} = 0$ .
- (3) א. ראה וידאו.      ב. נדחה את  $H_0$ .      ג. לא נדחה את  $H_0$ .
- ד. (1.592, 13.317).
- (4) א. 1.5876, 11.5715      ב. 0.173      ג. יגדל.
- ד. 0.0865      ה. 0.9135      ו.  $49.18 < \mu < 58.82$ .

# מבוא לסטטיסטיקה

פרק 29 - הקשר בין רווח סמך לבדיקת השערות להפרש תוחלות

תוכן העניינים

1. הקשר בין רווח סמך לבדיקת השערות להפרש תוחלות..... 166

## הקשר בין רווח סמך לבדיקת השערות על הפרש תוחלות

---

### רקע

ניתן לבצע בדיקת השערות דו צדדית ברמת מובהקות  $\alpha$  על  $\mu_1 - \mu_2$  :

$$H_0 : \mu_1 - \mu_2 = C, \quad H_1 : \mu_1 - \mu_2 \neq C$$

על ידי בניית רווח סמך ברמת סמך של  $1 - \alpha$  ל-  $\mu_1 - \mu_2$  :

אם  $C$  נופל ברווח  $\leftarrow$  נקבל את  $H_0$  .

אם  $C$  לא נופל ברווח  $\leftarrow$  נדחה את  $H_0$  .

### דוגמה (פתרון בהקלטה) :

חוקר ביצע בדיקת השערות לתוחלת ההפרש במדגם מזווג.

להלן השערותיו :  $\alpha = 5\%$ ,  $H_0 : \mu_D = 80$ ,  $H_1 : \mu_D \neq 80$  .

החוקר בנה רווח סמך ברמה של 90% ,  $78 < \mu_D < 83$  .

האם אפשר לדעת מה מסקנתו, ואם כן מהי?

## שאלות

- (1) נדגמו 5 סטודנטים שסיימו את הקורס סטטיסטיקה ב'. להלן ציוניהם בסמסטר א' ו- ב' :

סמסטר א	סמסטר ב
74	80
68	84
90	87
75	76
82	100

- א. בנו רווח סמך ברמת סמך של 95% לתוחלת פער הציונים בין סמסטר א' לבין סמסטר ב'.  
 ב. פורסם שתלמידים שמסיימים את סמסטר ב משפרים בממוצע את הציונים ב-5 נק' לעומת סמסטר א'. האם יש אמת בפרסום?

- (2) הוחלט להשוות הציונים אצל מרצה X ואצל מרצה Y. נבחרו באקראי 6 סטודנטים, 3 סטודנטים של מרצה X ו-3 סטודנטים של מרצה Y, עבורם התקבלו הציונים הבאים :

מרצה X	82	90	68
מרצה Y	68	81	64

- א. חשבו רווח סמך ברמת סמך 90% להפרש בין התוחלות של הציונים אצל שני המרצים.  
 ב. האם ברמת מובהקות של 10% נכריע שיש הבדל בין תוחלות הציונים אצל שני המרצים?

## שאלות רב-ברירה :

- (3) סטטיסטיקאי נתבקש לאמוד את הפרש הממוצעים של שני טיפולים לפי שני מדגמים מקריים בלתי תלויים.  
 הוא חישב רווח סמך להפרש ברמת סמך 0.98, וקיבל את הרווח  $-2 < \mu_1 - \mu_2 < 4.5$ .  
 אילו יתבקש החוקר לבדוק לפי אותם נתונים את השערות :  
 $H_0 : \mu_1 - \mu_2 = 0$  ;  $H_1 : \mu_1 - \mu_2 \neq 0$  ברמת מובהקות 0.05, מסקנתו תהיה :  
 א. לדחות את השערת האפס.  
 ב. לא לדחות את השערת האפס.  
 ג. שלא ניתן לדעת את המסקנה עבור רמת מובהקות 0.05.  
 ד. שלא נתונות בשאלה סטיות התקן של האוכלוסיות, ולכן לא ניתן להסיק דבר.

- (4) במטרה לבדוק האם קיים הבדל בין קווי זהב לבזק מבחינת ממוצע המחירים לשיחות בינ"ל. נגדמו באקראי 7 מדינות ועבור כל מדינה נבדקה עלות דקת שיחה. בהנחה והמחירים מתפלים נורמלית בנו רווח סמך לממוצע ההפרשים וקיבלו :  $-0.0293 < \mu_D < 0.2145$ , רווח הסמך הוא ברמת סמך של 95% .  
 לכן מסקנת המחקר היא :
- ברמת מובהקות של 5% לא נוכל לקבוע שקיים הבדל בין החברות.
  - ברמת מובהקות של 5% נקבע שקיים הבדל מובהק בין החברות.
  - לא ניתן לדעת מה המסקנה ברמת מובהקות של 5% כיוון שלא נאמר מה ההגדרה של  $D$ .

### תשובות סופיות

- (1) א.  $-3.8 \leq \mu_D \leq 19$  ב. נכריע שיש אמת בפרסום.
- (2) א.  $-8.5 \leq \mu_X - \mu_Y \leq 26.5$  ב. נכריע שאין הבדל.
- (3) ג.
- (4) א.

# מבוא לסטטיסטיקה

פרק 30 - בדיקת השערות על שוניות

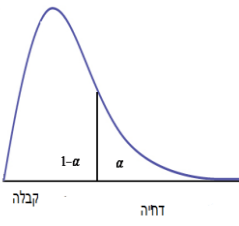
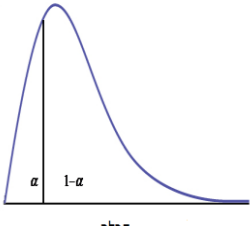
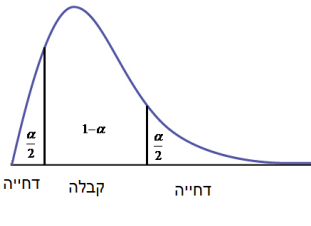
תוכן העניינים

- 169 ..... 1. בדיקת השערות על שונות וסטיית תקן
- 174 ..... 2. בדיקת השערות על שתי שוניות

## בדיקת השערות על שונות וסטיית תקן:

רקע:

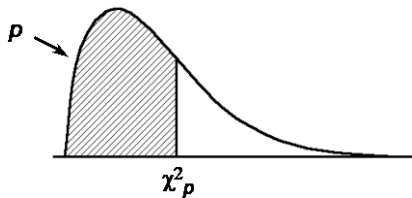
בדיקת השערות על שונות האוכלוסייה כאשר התוחלת לא ידועה:

$H_0: \sigma^2 = \sigma_0^2$ $H_1: \sigma^2 > \sigma_0^2$	$H_0: \sigma^2 = \sigma_0^2$ $H_1: \sigma^2 < \sigma_0^2$	$H_0: \sigma^2 = \sigma_0^2$ $H_1: \sigma^2 \neq \sigma_0^2$	השערת האפס: השערה אלטרנטיבית:
$X \sim N$			תנאים:
 <p style="text-align: center;"><math>\chi^2 &gt; \chi_{1-\alpha}^{2(n-1)}</math></p>	 <p style="text-align: center;"><math>\chi^2 &lt; \chi_{\alpha}^{2(n-1)}</math></p>	 <p style="text-align: center;">או <math>\chi^2 &lt; \chi_{\frac{\alpha}{2}}^{2(n-1)}</math> או <math>\chi^2 &gt; \chi_{1-\frac{\alpha}{2}}^{2(n-1)}</math></p>	נדחה את השערת האפס אם:

$$\chi^2 = \frac{(n-1)S^2}{\sigma_0^2} \quad \text{סטטיסטי המבחן:}$$

התפלגות חי בריבוע:

$$\frac{(n-1)S^2}{\sigma_0^2} \sim \chi^{2(n-1)} \quad \text{אם } X_i \sim N(\mu, \sigma^2) \text{ והפרמטר } \mu \text{ אינו ידוע, מתקיים ש:}$$



התפלגות זו היא התפלגות אסימטרית חיובית המתחילה מהערך אפס וערכיה שואפים לאינסוף.

התפלגות זו תלויה בדרגות החופש.

אם  $\mu$  אינו ידוע, אז:  $d.f = n - 1$ .

**דוגמה:**

ציוני IQ לפי סטנדרטים אמריקאים מתפלגים נורמאלית עם  $\sigma = 15$ . מעוניינים לבדוק האם שונות הציונים של נבחנים ישראלים שונה מאמריקה.

$$\sum_{i=1}^{20} (x_i - \bar{x})^2 = 3420 \quad \text{במדגם של 20 ישראלים התקבל:}$$

מה המסקנה ברמת מובהקות של 5%?

**פתרון:**

האוכלוסייה: נבחנים ישראלים במבחן I.Q

המשתנה:  $X =$  ציון I.Q

פרמטר:  $\sigma^2$

$$H_0: \sigma^2 = 15^2 = 225$$

השערות:  $H_1: \sigma^2 \neq 225$

הנחה:  $X \sim N$

$$d.f = n - 1 = 20 - 1 = 19 \quad \text{כלל הכרעה:}$$

נדחה את  $H_0$  אם  $X^2 > 32.9$  או  $X^2 < 8.91$

תוצאות המדגם:  $n = 20$

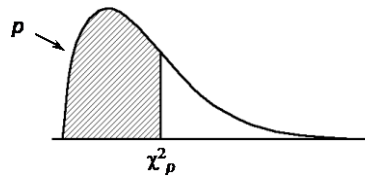
$$\sum (X_i - \bar{X})^2 = 3420$$

$$S^2 = \frac{\sum (X_i - \bar{X})^2}{n-1} = \frac{3420}{20-1} = 180$$

$$\chi^2 = \frac{(n-1)S^2}{\sigma_0^2} = \frac{19 \cdot 180}{225} = 15.2$$

מסקנה: לא נדחה את  $H_0$ , לא נסיק ששונות הציונים של נבחנים ישראלים במבחן I.Q

שונה מזו של אמריקאים. ( $\alpha = 5\%$ )

**טבלת התפלגות חי-בריבוע – ערכי החלוקה  $\chi^2_p$** 


df	$p$												
	.005	.01	.025	.05	.10	.25	.50	.75	.90	.95	.975	.99	.995
1	0.00393	0.0157	0.03982	0.0393	0.0158	0.102	0.455	1.32	2.71	3.84	5.02	6.63	7.88
2	0.0100	0.0201	0.0506	0.103	0.211	0.575	1.39	2.77	4.61	5.99	7.38	9.21	10.6
3	0.0717	0.115	0.216	0.352	0.584	1.21	2.37	4.11	6.25	7.81	9.35	11.3	12.8
4	0.207	0.297	0.484	0.711	1.06	1.92	3.36	5.39	7.78	9.49	11.1	13.3	14.9
5	0.412	0.554	0.831	1.15	1.61	2.67	4.35	6.63	9.24	11.1	12.8	15.1	16.7
6	0.676	0.872	1.24	1.64	2.20	3.45	5.35	7.84	10.6	12.6	14.4	16.8	18.5
7	0.989	1.24	1.69	2.17	2.83	4.25	6.35	9.04	12.0	14.1	16.0	18.5	20.3
8	1.34	1.65	2.18	2.73	3.49	5.07	7.34	10.2	13.4	15.5	17.5	20.1	22.0
9	1.73	2.09	2.70	3.33	4.17	5.90	8.34	11.4	14.7	16.9	19.0	21.7	23.6
10	2.16	2.56	3.25	3.94	4.87	6.74	9.34	12.5	16.0	18.3	20.5	23.2	25.2
11	2.60	3.05	3.82	4.57	5.58	7.58	10.3	13.7	17.3	19.7	21.9	24.7	26.8
12	3.07	3.57	4.40	5.23	6.30	8.44	11.3	14.8	18.5	21.0	23.3	26.2	28.3
13	3.57	4.11	5.01	5.89	7.04	9.30	12.3	16.0	19.8	22.4	24.7	27.7	29.8
14	4.07	4.66	5.63	6.57	7.79	10.2	13.3	17.1	21.1	23.7	26.1	29.1	31.3
15	4.60	5.23	6.26	7.26	8.55	11.0	14.3	18.2	22.3	25.0	27.5	30.6	32.8
16	5.14	5.81	6.91	7.96	9.31	11.9	15.3	19.4	23.5	26.3	28.8	32.0	34.3
17	5.70	6.41	7.56	8.67	10.1	12.8	16.3	20.5	24.8	27.6	30.2	33.4	35.7
18	6.26	7.01	8.23	9.39	10.9	13.7	17.3	21.6	26.0	28.9	31.5	34.8	37.2
19	6.84	7.63	8.91	10.1	11.7	14.6	18.3	22.7	27.2	30.1	32.9	36.2	38.6
20	7.43	8.26	9.59	10.9	12.4	15.5	19.3	23.8	28.4	31.4	34.2	37.6	40.0
21	8.03	8.90	10.3	11.6	13.2	16.3	20.3	24.9	29.6	32.7	35.5	38.9	41.4
22	8.64	9.54	11.0	12.3	14.0	17.2	21.3	26.0	30.8	33.9	36.8	40.3	42.8
23	9.26	10.2	11.7	13.1	14.8	18.1	22.3	27.1	32.0	35.2	38.1	41.6	44.2
24	9.89	10.9	12.4	13.8	15.7	19.0	23.3	28.2	33.2	36.4	39.4	43.0	45.6
25	10.5	11.5	13.1	14.6	16.5	19.9	24.3	29.3	34.4	37.7	40.6	44.3	46.9
26	11.2	12.2	13.8	15.4	17.3	20.8	25.3	30.4	35.6	38.9	41.9	45.6	48.3
27	11.8	12.9	14.6	16.2	18.1	21.7	26.3	31.5	36.7	40.1	43.2	47.0	49.6
28	12.5	13.6	15.3	16.9	18.9	22.7	27.3	32.6	37.9	41.3	44.5	48.3	51.0
29	13.1	14.3	16.0	17.7	19.8	23.6	28.3	33.7	39.1	42.6	45.7	49.6	52.3
30	13.8	15.0	16.8	18.5	20.6	24.5	29.3	34.8	40.3	43.8	47.0	50.9	53.7

## שאלות:

(1) חברה אורזת סוכר במשקל עם סטיית תקן 20 גרם. משקל הסוכר באריזה מתפלג נורמאלית. החברה החליפה את מכונות האריזה במטרה לדייק יותר במשקל הנארוז. (רוצים שסטיית התקן תהיה קטנה יותר).  
 לצורך בדיקה דגמו 5 אריזות סוכר ולהלן משקלן (בגרם):  
 1008, 1024, 1005, 996, 997  
 מה המסקנה ברמת מובהקות של 5%?

(2) זמן ההחלמה ממחלה מסוימת כאשר משתמשים בטיפול מסוים מתפלג נורמלית עם סטיית תקן של 80 שעות. תרופה חדשה נוסתה על 5 חולים. זמני ההחלמה שלהם בשעות היו: 110, 90, 72, 50, 38.

א. ברמת מובהקות של 5% בדקו האם סטיית התקן של זמן החלמה של התרופה החדשה נמוכה מהתרופה המקורית?

ב. האם ניתן לדעת מה תהיה התשובה לסעיף א', אם נגדיל את רמת המובהקות?

ג. האם ניתן לדעת מה תהיה התשובה לסעיף א אם נקטין את רמת המובהקות?

ד. האם ניתן לדעת מה תהיה התשובה לסעיף א אם נוסיף תצפית שערכה 70?

(3) הגובה של אוכלוסייה מסוימת נחשב כמתפלג נורמלית עם ממוצע של 174 ס"מ וסטיית תקן 12. במדגם של 20 אנשים מהאוכלוסייה התקבל ממוצע 171 וסטיית תקן מדגמית 23.

א. בדקו ברמת מובהקות של 5% האם חל שינוי בשונות הגבהים באוכלוסייה.

ב. בדקו ברמת מובהקות של 5%, האם חל שינוי בתוחלת הגבהים

באוכלוסייה, בבחירת המבחן המתאים הסתמך על המסקנה מסעיף א'.

(4) השערות המחקר הן:  $H_1: \sigma^2 > 100$   $H_0: \sigma^2 = 100$

מתכננים לבצע מדגם בגודל 10 תצפיות. רמת המובהקות היא 5%.

א. מה תהיה עוצמת המבחן אם  $\sigma_1^2 = 150$ ?

ב. איזו השערה אלטרנטיבית תיתן עוצמה של 90%?

(5) השערות המחקר הן:  $H_1: \sigma < 2$ ,  $H_0: \sigma = 2$ .

במדגם של 21 תצפיות התקבל סטיית תקן 1.143.

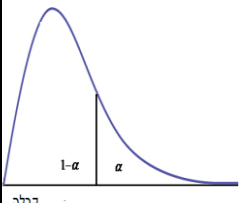
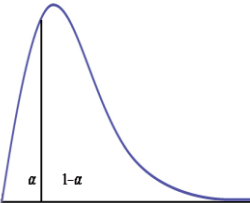
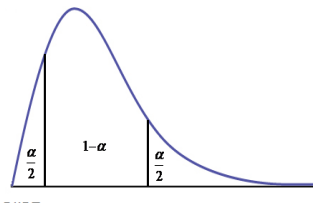
תנו הערכה למובהקות התוצאה.

### תשובות סופיות:

- (1) לא נדחה  $H_0$ .
- (2) א. נדחה את  $H_0$ .  
 ב. לא תשתנה.  
 ג. לא ניתן לדעת.  
 ד. לא תשתנה.
- (3) א. נדחה את  $H_0$ .  
 ב. לא נדחה את  $H_0$ .
- (4) א. בין 25% ל-50%.  
 ב. 405.3.
- (5)  $0 < P_v < 0.005$ .

## בדיקת השערות על שתי שוניות:

רקע:

השערת האפס : השערה אלטרנטיבית :	$H_0 : \frac{\sigma_1^2}{\sigma_2^2} = 1$	$H_0 : \frac{\sigma_1^2}{\sigma_2^2} = 1$	$H_0 : \frac{\sigma_1^2}{\sigma_2^2} = 1$
	$H_1 : \frac{\sigma_1^2}{\sigma_2^2} > 1$	$H_1 : \frac{\sigma_1^2}{\sigma_2^2} < 1$	$H_1 : \frac{\sigma_1^2}{\sigma_2^2} \neq 1$
תנאים :	1. מדגמים בלתי תלויים 2. $X_1, X_2 \sim N$		
נדחה את השערת האפס אם :	 <p>קבלה דחייה</p> $F \geq f_{1-\alpha}^{(n_1-1, n_2-1)}$	 <p>דחייה קבלה</p> $F \leq \frac{1}{f_{1-\alpha}^{(n_2-1, n_1-1)}}$	 <p>דחייה קבלה דחייה</p> $F \geq f_{1-\alpha/2}^{(n_1-1, n_2-1)}$ $F \leq \frac{1}{f_{1-\alpha/2}^{(n_2-1, n_1-1)}}$

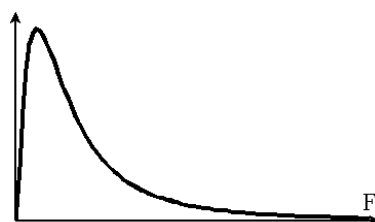
$$F = \frac{S_1^2}{S_2^2} : \text{סטטיסטי המבחן}$$

התפלגות F:

$$\frac{S_1^2}{S_2^2} \sim F(n_1-1, n_2-1) \text{ אם } X_1 \sim N(\mu_1, \sigma^2) \text{ ו- } X_2 \sim N(\mu_2, \sigma^2) \text{ אזי}$$

התפלגות F הינה התפלגות אסימטרית חיובית התלויה בדרגות חופש של המונה ושל המכנה.

$$\text{כמו כן בהתפלגות F מתקיימת התכונה הבאה: } F_{1-\alpha}(n_1-1, n_2-1) = \frac{1}{F_{\alpha}(n_2-1, n_1-1)}$$



$$df_1 = n_1 - 1$$

$$df_2 = n_2 - 1$$

**דוגמה:**

מעוניינים להשוות בין נשים וגברים מבחינת השונות בזמנים שלהם לבצע משימה מסוימת. במדגם של 10 גברים התקבלו התוצאות הבאות לגבי זמני ביצוע המשימה:  $\sum (y_i - \bar{y})^2 = 204$ .

במדגם של 13 נשים התקבלו התוצאות הבאות:  $\sum (x_i - \bar{x})^2 = 200$ . בדקו ברמת מובהקות של 2% האם קיים הבדל בין השונות? מה יש להניח?

**פתרון:**

האוכלוסיות: נשים מול גברים.

משתנה:  $y =$  זמן ביצוע משימה של גבר,  $x =$  זמן ביצוע משימה של אישה

$$\frac{\sigma_x^2}{\sigma_y^2} : \text{פרמטר}$$

$$H_0 : \frac{\sigma_x^2}{\sigma_y^2} = 1$$

השערות:

$$H_1 : \frac{\sigma_x^2}{\sigma_y^2} \neq 1$$

הנחות: 1. מדגימים ב"ת 2.  $x, y \sim N$

כלל הכרעה:

$$\alpha = 2\%$$

$$n_1 = 13, d.f_1 = n_1 - 1 = 12$$

$$n_2 = 10, d.f_2 = n_2 - 1 = 9$$

נדחה את  $H_0$  אם  $F > 5.11$  או  $F < 0.23$

$$S_y^2 = \frac{204}{10-1} = 22\frac{2}{3} : \text{תוצאות המדגם}$$

$$S_x^2 = \frac{200}{13-1} = 16\frac{2}{3}$$

$$F = \frac{S_1^2}{S_2^2} = \frac{16\frac{2}{3}}{22\frac{2}{3}} : \text{סטטיסטי המבחן}$$

מסקנה: ברמת מובהקות של 2% נקבל את  $H_0$ .

לא קיים הבדל מובהק בין גברים לנשים מבחינת השונות שלהם.

$\alpha = 0.05$ טבלת ערכים קריטיים לפי התפלגות F																	
ד"ח מנהל"ח מנבה	1	2	3	4	5	6	7	8	9	10	12	16	20	24	60	120	$\infty$
1	161.45	199.50	215.71	224.58	230.16	233.99	236.77	238.88	240.54	241.88	243.91	246.46	248.01	249.05	252.20	253.25	254.31
2	18.51	19.00	19.16	19.25	19.30	19.33	19.35	19.37	19.38	19.40	19.41	19.43	19.45	19.45	19.48	19.49	19.50
3	10.13	9.55	9.28	9.12	9.01	8.94	8.89	8.85	8.81	8.79	8.74	8.69	8.66	8.64	8.57	8.55	8.53
4	7.71	6.94	6.59	6.39	6.26	6.16	6.09	6.04	6.00	5.96	5.91	5.84	5.80	5.77	5.69	5.66	5.63
5	6.61	5.79	5.41	5.19	5.05	4.95	4.88	4.82	4.77	4.74	4.68	4.60	4.56	4.53	4.43	4.40	4.37
6	5.99	5.14	4.76	4.53	4.39	4.28	4.21	4.15	4.10	4.06	4.00	3.92	3.87	3.84	3.74	3.70	3.67
7	5.59	4.74	4.35	4.12	3.97	3.87	3.79	3.73	3.68	3.64	3.57	3.49	3.44	3.41	3.30	3.27	3.23
8	5.32	4.46	4.07	3.84	3.69	3.58	3.50	3.44	3.39	3.35	3.28	3.20	3.15	3.12	3.01	2.97	2.93
9	5.12	4.26	3.86	3.63	3.48	3.37	3.29	3.23	3.18	3.14	3.07	2.99	2.94	2.90	2.79	2.75	2.71
10	4.96	4.10	3.71	3.48	3.33	3.22	3.14	3.07	3.02	2.98	2.91	2.83	2.77	2.74	2.62	2.58	2.54
11	4.84	3.98	3.59	3.36	3.20	3.09	3.01	2.95	2.90	2.85	2.79	2.70	2.65	2.61	2.49	2.45	2.40
12	4.75	3.89	3.49	3.26	3.11	3.00	2.91	2.85	2.80	2.75	2.69	2.60	2.54	2.51	2.38	2.34	2.30
13	4.67	3.81	3.41	3.18	3.03	2.92	2.83	2.77	2.71	2.67	2.60	2.51	2.46	2.42	2.30	2.25	2.21
14	4.60	3.74	3.34	3.11	2.96	2.85	2.76	2.70	2.65	2.60	2.53	2.44	2.39	2.35	2.22	2.18	2.13
15	4.54	3.68	3.29	3.06	2.90	2.79	2.71	2.64	2.59	2.54	2.48	2.38	2.33	2.29	2.16	2.11	2.07
16	4.49	3.63	3.24	3.01	2.85	2.74	2.66	2.59	2.54	2.49	2.42	2.33	2.28	2.24	2.11	2.06	2.01
17	4.45	3.59	3.20	2.96	2.81	2.70	2.61	2.55	2.49	2.45	2.38	2.29	2.23	2.19	2.06	2.01	1.96
18	4.41	3.55	3.16	2.93	2.77	2.66	2.58	2.51	2.46	2.41	2.34	2.25	2.19	2.15	2.02	1.97	1.92
19	4.38	3.52	3.13	2.90	2.74	2.63	2.54	2.48	2.42	2.38	2.31	2.21	2.16	2.11	1.98	1.93	1.88
20	4.35	3.49	3.10	2.87	2.71	2.60	2.51	2.45	2.39	2.35	2.28	2.18	2.12	2.08	1.95	1.90	1.84
21	4.32	3.47	3.07	2.84	2.68	2.57	2.49	2.42	2.37	2.32	2.25	2.16	2.10	2.05	1.92	1.87	1.81
22	4.30	3.44	3.05	2.82	2.66	2.55	2.46	2.40	2.34	2.30	2.23	2.13	2.07	2.03	1.89	1.84	1.78
23	4.28	3.42	3.03	2.80	2.64	2.53	2.44	2.37	2.32	2.27	2.20	2.11	2.05	2.01	1.86	1.81	1.76
24	4.26	3.40	3.01	2.78	2.62	2.51	2.42	2.36	2.30	2.25	2.18	2.09	2.03	1.98	1.84	1.79	1.73
25	4.24	3.39	2.99	2.76	2.60	2.49	2.40	2.34	2.28	2.24	2.16	2.07	2.01	1.96	1.82	1.77	1.71
26	4.23	3.37	2.98	2.74	2.59	2.47	2.39	2.32	2.27	2.22	2.15	2.05	1.99	1.95	1.80	1.75	1.69
27	4.21	3.35	2.96	2.73	2.57	2.46	2.37	2.31	2.25	2.20	2.13	2.04	1.97	1.93	1.79	1.73	1.67
28	4.20	3.34	2.95	2.71	2.56	2.45	2.36	2.29	2.24	2.19	2.12	2.02	1.96	1.91	1.77	1.71	1.65
29	4.18	3.33	2.93	2.70	2.55	2.43	2.35	2.28	2.22	2.18	2.10	2.01	1.94	1.90	1.75	1.70	1.64
30	4.17	3.32	2.92	2.69	2.53	2.42	2.33	2.27	2.21	2.16	2.09	1.99	1.93	1.89	1.74	1.68	1.62
40	4.08	3.23	2.84	2.61	2.45	2.34	2.25	2.18	2.12	2.08	2.00	1.90	1.84	1.79	1.64	1.58	1.51
50	4.03	3.18	2.79	2.56	2.40	2.29	2.20	2.13	2.07	2.03	1.95	1.85	1.78	1.74	1.58	1.51	1.44
60	4.00	3.15	2.76	2.53	2.37	2.25	2.17	2.10	2.04	1.99	1.92	1.82	1.75	1.70	1.53	1.47	1.39
90	3.95	3.10	2.71	2.47	2.32	2.20	2.11	2.04	1.99	1.94	1.86	1.76	1.69	1.64	1.46	1.39	1.30
120	3.92	3.07	2.68	2.45	2.29	2.18	2.09	2.02	1.96	1.91	1.83	1.73	1.66	1.61	1.43	1.35	1.25
$\infty$	3.84	3.00	2.60	2.37	2.21	2.10	2.01	1.94	1.88	1.83	1.75	1.64	1.57	1.52	1.32	1.22	1.00

טבלת ערכים קריטיים לפי התפלגות F $\alpha = 0.01$ ראה איור מטה.																	
ד"ח מונה/ד"ח מכנה	1	2	3	4	5	6	7	8	9	10	12	16	20	24	60	120	$\infty$
1	4052.18	4999.50	5403.35	5624.58	5763.65	5858.99	5928.36	5981.07	6022.47	6055.85	6106.32	6170.10	6208.73	6234.63	6313.03	6339.39	6365.86
2	98.50	99.00	99.17	99.25	99.30	99.33	99.36	99.37	99.39	99.40	99.42	99.44	99.45	99.46	99.48	99.49	99.50
3	34.12	30.82	29.46	28.71	28.24	27.91	27.67	27.49	27.35	27.23	27.05	26.83	26.69	26.60	26.32	26.22	26.13
4	21.20	18.00	16.69	15.98	15.52	15.21	14.98	14.80	14.66	14.55	14.37	14.15	14.02	13.93	13.65	13.56	13.46
5	16.26	13.27	12.06	11.39	10.97	10.67	10.46	10.29	10.16	10.05	9.89	9.68	9.55	9.47	9.20	9.11	9.02
6	13.75	10.92	9.78	9.15	8.75	8.47	8.26	8.10	7.98	7.87	7.72	7.52	7.40	7.31	7.06	6.97	6.88
7	12.25	9.55	8.45	7.85	7.46	7.19	6.99	6.84	6.72	6.62	6.47	6.28	6.16	6.07	5.82	5.74	5.65
8	11.26	8.65	7.59	7.01	6.63	6.37	6.18	6.03	5.91	5.81	5.67	5.48	5.36	5.28	5.03	4.95	4.86
9	10.56	8.02	6.99	6.42	6.06	5.80	5.61	5.47	5.35	5.26	5.11	4.92	4.81	4.73	4.48	4.40	4.31
10	10.04	7.56	6.55	5.99	5.64	5.39	5.20	5.06	4.94	4.85	4.71	4.52	4.41	4.33	4.08	4.00	3.91
11	9.65	7.21	6.22	5.67	5.32	5.07	4.89	4.74	4.63	4.54	4.40	4.21	4.10	4.02	3.78	3.69	3.60
12	9.33	6.93	5.95	5.41	5.06	4.82	4.64	4.50	4.39	4.30	4.16	3.97	3.86	3.78	3.54	3.45	3.36
13	9.07	6.70	5.74	5.21	4.86	4.62	4.44	4.30	4.19	4.10	3.96	3.78	3.66	3.59	3.34	3.25	3.17
14	8.86	6.51	5.56	5.04	4.69	4.46	4.28	4.14	4.03	3.94	3.80	3.62	3.51	3.43	3.18	3.09	3.00
15	8.68	6.36	5.42	4.89	4.56	4.32	4.14	4.00	3.89	3.80	3.67	3.49	3.37	3.29	3.05	2.96	2.87
16	8.53	6.23	5.29	4.77	4.44	4.20	4.03	3.89	3.78	3.69	3.55	3.37	3.26	3.18	2.93	2.84	2.75
17	8.40	6.11	5.18	4.67	4.34	4.10	3.93	3.79	3.68	3.59	3.46	3.27	3.16	3.08	2.83	2.75	2.65
18	8.29	6.01	5.09	4.58	4.25	4.01	3.84	3.71	3.60	3.51	3.37	3.19	3.08	3.00	2.75	2.66	2.57
19	8.18	5.93	5.01	4.50	4.17	3.94	3.77	3.63	3.52	3.43	3.30	3.12	3.00	2.92	2.67	2.58	2.49
20	8.10	5.85	4.94	4.43	4.10	3.87	3.70	3.56	3.46	3.37	3.23	3.05	2.94	2.86	2.61	2.52	2.42
21	8.02	5.78	4.87	4.37	4.04	3.81	3.64	3.51	3.40	3.31	3.17	2.99	2.88	2.80	2.55	2.46	2.36
22	7.95	5.72	4.82	4.31	3.99	3.76	3.59	3.45	3.35	3.26	3.12	2.94	2.83	2.75	2.50	2.40	2.31
23	7.88	5.66	4.76	4.26	3.94	3.71	3.54	3.41	3.30	3.21	3.07	2.89	2.78	2.70	2.45	2.35	2.26
24	7.82	5.61	4.72	4.22	3.90	3.67	3.50	3.36	3.26	3.17	3.03	2.85	2.74	2.66	2.40	2.31	2.21
25	7.77	5.57	4.68	4.18	3.85	3.63	3.46	3.32	3.22	3.13	2.99	2.81	2.70	2.62	2.36	2.27	2.17
26	7.72	5.53	4.64	4.14	3.82	3.59	3.42	3.29	3.18	3.09	2.96	2.78	2.66	2.58	2.33	2.23	2.13
27	7.68	5.49	4.60	4.11	3.78	3.56	3.39	3.26	3.15	3.06	2.93	2.75	2.63	2.55	2.29	2.20	2.10
28	7.64	5.45	4.57	4.07	3.75	3.53	3.36	3.23	3.12	3.03	2.90	2.72	2.60	2.52	2.26	2.17	2.06
29	7.60	5.42	4.54	4.04	3.73	3.50	3.33	3.20	3.09	3.00	2.87	2.69	2.57	2.49	2.23	2.14	2.03
30	7.56	5.39	4.51	4.02	3.70	3.47	3.30	3.17	3.07	2.98	2.84	2.66	2.55	2.47	2.21	2.11	2.01
40	7.31	5.18	4.31	3.83	3.51	3.29	3.12	2.99	2.89	2.80	2.66	2.48	2.37	2.29	2.02	1.92	1.80
50	7.17	5.06	4.20	3.72	3.41	3.19	3.02	2.89	2.78	2.70	2.56	2.38	2.27	2.18	1.91	1.80	1.68
60	7.08	4.98	4.13	3.65	3.34	3.12	2.95	2.82	2.72	2.63	2.50	2.31	2.20	2.12	1.84	1.73	1.60
90	6.93	4.85	4.01	3.53	3.23	3.01	2.84	2.72	2.61	2.52	2.39	2.21	2.09	2.00	1.72	1.60	1.46
120	6.85	4.79	3.95	3.48	3.17	2.96	2.79	2.66	2.56	2.47	2.34	2.15	2.03	1.95	1.66	1.53	1.38
$\infty$	6.63	4.61	3.78	3.32	3.02	2.80	2.64	2.51	2.41	2.32	2.18	2.00	1.88	1.79	1.47	1.32	1.00

## שאלות:

- 1) להלן נתונים על שטחי דירות במ"ר עבור דירות חדשות שנבנו בשנת 2012 ובשנת 2013:

120	94	90	130	95	112	120	2012
	69	74	105	91	82	100	2013

- א. בדקו ברמת מובהקות של 10% את ההשערה ששונויות שטחי הדירות החדשות בשנת 2012 ובשנת 2013 שוות. מה הן ההנחות הדרושות לביצוע הבדיקה?  
 ב. האם וכיצד הייתה משתנה המסקנה מהסעיף הקודם אם מסתבר שחלה טעות ברישום ויש להפחית 10 מ"ר מכל הדירות שמופיעות במדגם?

- 2) בתחום הבינוי משתמשים בשני סוגי מתכות: מתכת A ומתכת B. מחקר מעוניין לבדוק האם קיים הבדל בין שני סוגי המתכות מבחינת החוזק שלהן. דגמו מספר

B	A	סוג המתכת
10	8	$n$
30	16	$\sum X_i$
198	60	$\sum X_i^2$

- יחידות מתכת מכל סוג והתקבלו התוצאות הבאות:  
 יש להניח שרמת החוזק של המתכות מתפלגת נורמאלית.  
 א. האם קיים הבדל בין שונויות החוזק של מתכות?  
 ב. האם קיים הבדל בין תוחלות החוזק של מתכות?  
 בכל סעיף רמת מובהקות של 10%.

- 3) מחקר סוציולוגי מעוניין לחקור את הרגלי הבילויים בקבוצות גיל שונות. ידוע כי בקרב האוכלוסייה הבוגרת (מעל 18) ההוצאה החודשית על בילויים מתפלגת נורמאלית עם תוחלת של 500₪ וסטטיית תקן של 300₪. במדגם שנעשה על סטודנטים בגילאי 21-26 התקבל אומד חוסר הטיה לשונות ההוצאה החודשית על בילויים 10,000₪. כמות הסטודנטים שנדגמה 16. במדגם שנעשה על 11 מבוגרים בשנות השלושים התקבל אומד חסר הטיה לשונות ההוצאה החודשית על בילויים 490,000₪.

- א. בדקו ברמת מובהקות של 5% האם שונות ההוצאה על בילויים בקרב סטודנטים בקבוצת גילאי 21-26 נמוכה מהשונות אצל כלל המבוגרים.  
 ב. בדקו ברמת מובהקות של 1% האם הפיזור של ההוצאה החודשית לבילויים גדולה יותר בקבוצת גיל ה-30 מאשר בקבוצת גיל 21-26.

- 4) נתון  $X_i \sim N(\mu_x, \sigma^2)$ , וכמו כן  $Y_i \sim N(\mu_y, \sigma^2)$ . מאוכלוסייה X נדגמו 7 תצפיות ומאוכלוסייה Y נדגמו 13 תצפיות.

א. כיצד  $\frac{S_x^2}{S_y^2}$  מתפלג?

- ב. מה ההסתברות ש- $S_x^2$  גדולה ביותר מפי 3 מאשר  $S_y^2$ ?

**תשובות סופיות:**

- (1) א. לא נדחה את  $H_0$ . ב. מסקנה לא תשתנה.
- (2) א. לא נדחה את  $H_0$ . ב. לא נדחה את  $H_0$ .
- (3) א. נדחה את  $H_0$ . ב. נדחה את  $H_0$ .
- (4) א.  $F(6,12)$ . ב. 5%

# מבוא לסטטיסטיקה

פרק 31 - ניתוח שונות חד כיוונית

תוכן העניינים

1. כללי ..... 180

## ניתוח שונות חד כיוונית

### רקע תיאורטי

ניתוח שונות (חד כיוונית) הוא מבחן להשוואת תוחלות  $(\mu_1, \dots, \mu_k)$  של  $k$  אוכלוסיות שונות. לכן, בנייתוח שונות, השערות המחקר הן:

$$H_0: \mu_1 = \mu_2 = \dots = \mu_k \quad (\text{התוחלות של כל האוכלוסיות שוות})$$

$$H_1: \quad \text{אחרת} \quad (\text{לפחות שתיים מהתוחלות שונות})$$

### ההנחות הדרושות לביצוע התהליך:

(2) בכל אוכלוסייה מתוך  $k$  האוכלוסיות ההתפלגות נורמלית.

(3) כל האוכלוסיות הן עם אותה שונות  $\sigma^2$ .

(4) המדגמים בלתי תלויים זה בזה.

ישנו משתנה המבדיל בין הקבוצות השונות, הוא המשתנה הבלתי תלוי הנקרא גורם (factor). משתנה זה הוא קטגוריאלי עם  $k$  רמות (levels). כדי לבצע את התהליך יש לבצע מדגם מכל אוכלוסייה: נסמן ב- $n_i$  את גודל המדגם בקבוצה  $i$ .

$$n = \sum_{i=1}^k n_i \quad \text{- מספר התצפיות סך הכול (בכל המדגמים).}$$

$\bar{X}_1$  - ממוצע המדגם הראשון,  $\dots, \bar{X}_k$  - ממוצע המדגם ה- $k$ .  
 $\bar{X}$  - ממוצע כללי (של כל המדגמים).

$$SS_B = \sum_{i=1}^k n_i [\bar{X}_i - \bar{X}]^2 \quad \text{: סכום ריבועים בין הקבוצות}$$

$$SS_W = \sum_{i=1}^k n_i [n_i - 1] \cdot \hat{S}_i^2 \quad \text{: סכום ריבועים בתוך הקבוצות}$$

$$SS_T = \sum_{i=1}^k \sum_{j=1}^{n_j} [X_{ij} - \bar{X}]^2 \quad \text{: סכום ריבועים כללי}$$

$$SST = SSB + SSW$$

יש למלא את טבלת ניתוח השונות הבאה:

מקור השונות	סכום הריבועים SS	דרגות חופש $df$	ממוצע הריבועים MS	F
B - בין הקבוצות	SSB	$k - 1$	$\frac{SSB}{k - 1}$	$\frac{MSB}{MSW}$
W - בתוך הקבוצות	SSW	$n - k$	$\frac{SSW}{n - k}$	
T - סה"כ	SST	$n - 1$		

$$F = \frac{\frac{SSB}{k-1}}{\frac{SSW}{n-k}} \sim F(k-1, n-k)$$

אזור דחיית  $H_0$ :  $1 - \alpha : F > F_{(k-1, n-k)}$

**שאלות**

**(1)** מחקר מעוניין להשוות בין שלוש תרופות לשיכוך כאבים במטרה לבדוק האם קיים הבדל בין התרופות מבחינת הזמן בדקות שלוקח עד שהתרופה משפיעה. לצורך הבדיקה נלקחו 15 אנשים שסובלים מכאבי ראש. אנשים אלה חולקו באקראי לשלוש: קבוצה 1 קיבלה "אקמול" קבוצה 2 קיבלה "אופטלגין" קבוצה 3 קיבלה "נורופן".

כל אדם במחקר מסר את מספר הדקות עד שהתרופה השפיעה עליו.

א. מהו המשתנה התלוי ומהו המשתנה הבלתי תלוי במחקר?

מהו ה"גורם" וכמה רמות יש לו?

ב. מהו המבחן הסטטיסטי המתאים כאן? רשמו את ההשערות.

ג. מה הן ההנחות הדרושות כדי לבצע את המבחן הסטטיסטי שהצעת בסעיף הקודם?

**(2)** בעיר מסוימת שלושה בתי ספר תיכון. ראש העיר התעניין לבדוק האם קיים הבדל בהצלחה של בתי הספר במקצוע מתמטיקה. לצורך כך הוא דגם מספר תלמידים שנבחנו במבחן הבגרות במתמטיקה ברמה של 3 יחידות בעירו ובדק עבור כל תלמיד מה ציון הבגרות שלו במתמטיקה.

"הס"	"רבין"	"המתמיד"
85	98	78
83	62	65
74	55	70
85	80	90
75		56

להלן הציונים שהתקבלו:

א. מהו המבחן הסטטיסטי המתאים?

רשמו את ההשערות ואת ההנחות של המבחן.

ב. מהו גודל המדגם? מהו המשתנה הבלתי תלוי (factor) כמה רמות יש לו?

ג. חשבו את הממוצע ואת סטיית התקן של הציונים בכל אחד מהמדגמים.

ד. מלאו את טבלת ANOVA.

ה. רשמו את כלל ההכרעה למבחן שהוצע בסעיף א ברמת מובהקות של 5%.

ו. האם קיים הבדל בין בתי הספר בעיר מבחינת רמת הצלחת התלמידים במקצוע המתמטיקה? ענה על סמך הסעיפים הקודמים.

**(3)** מעוניינים לבדוק האם יש הבדל בהשפעה של שיטות טפול שונות על לחץ הדם הסיסטולי (SBP) באוכלוסייה של קשישים. נבדקו 4 שיטות שונות.

בטבלה המצורפת מרוכזים ממצאי המחקר.

D	C	B	A	השיטה
12	8	14	12	גודל המדגם
182	180	172	178	הממוצע
3	5	8	4	סטיית התקן

א. רשמו את השערות המחקר וההנחות הדרושות כדי לבצע את המבחן המתאים.

ב. מה מסקנת המחקר ברמת מובהקות של 5%?

ג. האם יש צורך לבצע השוואות מרובות?

4) שלושה אופים נתבקשו להכין עוגת שוקולד. לכל אופה בדקו את משך זמן ההכנה בדקות. כל אופה נדרש לאפות בכל יום 4 עוגות.

האם קיים הבדל בין האופים מבחינת תוחלת זמני ההכנה של העוגות? בדקו ברמת מובהקות של 5%.

האופה	ניר	מוזס	שלום
סכום הזמנים	206	212	182
סכום ריבועי הזמנים	10644	11250	8982

5) להלן טבלת ניתוח שונות חד כיוונית. במחקר בחנו 4 סוגי סוללות. רצו לבדוק האם לסוג הסוללה השפעה על תוחלת אורך החיים שלה. הפעילו את כל הסוללות על אותו מכשיר ובדקו את אורך החיים של כל סוללה בשעות. מה המסקנה ברמת מובהקות של 10%? רשמו את ההשערות וההנחות הדרושות.

### ANOVA

	Sum of Squares	df	Mean Square	F	Sig.
Between Groups	10.317	3	3.439	1.361	.279
Within Groups	60.648	24	2.527		
Total	70.964	27			

6) להלן טבלת ANOVA בטבלה הושמטו חלקים. השלימו את החלקים בטבלה שהושמטו ומסומנים באותיות.

### ANOVA

	Sum of Squares	df	Mean Square	F	Sig.
Between Groups	357.450	ב	ג	ה	.000
Within Groups	א	17	ד		
Total	522.950	19			

7) חברת תרופות לקחה 15 אנשים ברמת בריאות דומה. החברה חילקה את האנשים ל שלוש קבוצות שוות בגודלן. לכל קבוצה ניתנה אותה תרופה במינון שונה (dosage). המינונים שניתנו הם: 10 מ"ג, 20 מ"ג ו-30 מ"ג. לאחר שעה מזמן לקיחת התרופה נבדק קצב פעימות הלב של כל אדם (pulse). הנתונים הוזנו לתוכנה סטטיסטית והתקבלו התוצאות הבאות:

ANOVA						pulse			
pulse						Tukey HSD <sup>a</sup>			
	Sum of Squares	df	Mean Square	F	Sig.	dosage	N	Subset for alpha = 0.05	
								1	2
Between Groups	414.400	2	207.200	19.733	.000	30.00	5	71.0000	
Within Groups	126.000	12	10.500			20.00	5		80.2000
Total	540.400	14				10.00	5		83.4000
						Sig.		1.000	.299

Means for groups in homogeneous subsets are displayed.  
a. Uses Harmonic Mean Sample Size = 5.000.

**Post Hoc Tests**

**Multiple Comparisons**

(I) dosage		(J) dosage	Mean Difference (I-J)	Std. Error	Sig.	95% Confidence Interval	
						Lower Bound	Upper Bound
10.00		20.00	3.20000	2.04939	.299	-2.2675	8.6675
		30.00	12.40000*	2.04939	.000	6.9325	17.8675
20.00		10.00	-3.20000	2.04939	.299	-8.6675	2.2675
		30.00	9.20000*	2.04939	.002	3.7325	14.6675
30.00		10.00	-12.40000*	2.04939	.000	-17.8675	-6.9325
		20.00	-9.20000*	2.04939	.002	-14.6675	-3.7325

\*. The mean difference is significant at the 0.05 level.

- א. בדקו ברמת מובהקות של 5% האם קיים הבדל בין המינונים השונים מבחינת תוחלת הדופק של האנשים? רשמו את ההשערות וההנחות הדרושות לצורך פתרון.
- ב. הסבירו ללא חישוב כיצד הייתה משתנה התשובה לסעיף הקודם אם הינו מעלים את הדופק של כל התצפיות במחקר ב-2.
- ג. האם יש צורך במחקר בהשוואת מרובות. נמקו!
- ד. לטבלת ANOVA צורפו טבלאות של השוואות מרובות בשיטה הנקראת "טוקי". ברמת בטחון של 95% מה הם הממצאים לפי שיטה זו?

- 8) בעיר מסוימת רצו לבדוק האם קיים הבדל ברמה של התלמידים בין בתי הספר השונים בעיר. ביצעו מדגם מכל בית ספר ונתנו מבחן זהה לכל הנדגמים. לאחר מכן ריכזו את הנתונים בתוכנה סטטיסטית והפעילו ניתוח שונות. מצורפים הפלטים שהתקבלו. ענו על הסעיפים הבאים :
- כמה בתי ספר יש בעיר?
  - כמה תלמידים השתתפו בסך הכול במחקר?
  - האם קיים הבדל בין בתי הספר בעיר מבחינה רמת הציונים? בדקו ברמת מובהקות של 1%
  - בביטחון של 95% אילו בתי ספר שונים זה מזה ברמת התלמידים? נמקו והסבירו.

**Oneway**

**ANOVA**

grade

	Sum of Squares	df	Mean Square	F	Sig.
Between Groups	7799.600	4	1949.900	13.586	.000
Within Groups	2870.400	20	143.520		
Total	10670.000	24			

**Post Hoc Tests**

**Multiple Comparisons**

grade

Scheffe

(I) school	(J) school	Mean Difference (I-J)	Std. Error	Sig.	95% Confidence Interval	
					Lower Bound	Upper Bound
1.00	2.00	5.40000	7.57681	.971	-20.2543	31.0543
	3.00	36.80000*	7.57681	.003	11.1457	62.4543
	4.00	36.40000*	7.57681	.003	10.7457	62.0543
	5.00	-2.60000	7.57681	.998	-28.2543	23.0543
2.00	1.00	-5.40000	7.57681	.971	-31.0543	20.2543
	3.00	31.40000*	7.57681	.011	5.7457	57.0543
	4.00	31.00000*	7.57681	.013	5.3457	56.6543
	5.00	-8.00000	7.57681	.888	-33.6543	17.6543
3.00	1.00	-36.80000*	7.57681	.003	-62.4543	-11.1457
	2.00	-31.40000*	7.57681	.011	-57.0543	-5.7457
	4.00	-.40000	7.57681	1.000	-26.0543	25.2543
	5.00	-39.40000*	7.57681	.001	-65.0543	-13.7457
4.00	1.00	-36.40000*	7.57681	.003	-62.0543	-10.7457
	2.00	-31.00000*	7.57681	.013	-56.6543	-5.3457
	3.00	.40000	7.57681	1.000	-25.2543	26.0543
	5.00	-39.00000*	7.57681	.001	-64.6543	-13.3457
5.00	1.00	2.60000	7.57681	.998	-23.0543	28.2543
	2.00	8.00000	7.57681	.888	-17.6543	33.6543
	3.00	39.40000*	7.57681	.001	13.7457	65.0543
	4.00	39.00000*	7.57681	.001	13.3457	64.6543

\*. The mean difference is significant at the 0.05 level.

**Homogeneous Subsets**

grade

Scheffe<sup>a</sup>

school	N	Subset for alpha = 0.05	
		1	2
3.00	5	45.0000	
4.00	5	45.4000	
2.00	5		76.4000
1.00	5		81.8000
5.00	5		84.4000
Sig.		1.000	.888

Means for groups in homogeneous subsets are displayed.

a. Uses Harmonic Mean Sample Size = 5.000.

**תשובות סופיות**

(1) א. משתנה בלתי תלוי : סוג התרופה. ב. ניתוח שונות חד כיווני

$$H_0 : \mu_1 = \mu_2 = \mu_3$$

$$H_1 : otherwise$$
 משתנה תלוי : הזמן עד להשפעת התרופה בדקות.

ג. 1. מדגמים בלתי תלויים.

2. שווין שונויות.

3. משתנים מתפלגים נורמלית.

(2) א. המבחן לניתוח שונות חד כיוונית.

$$H_0 : \mu_1 = \mu_2 = \mu_3$$

$$H_1 : otherwise$$

הנחות :

1. מדגמים בלתי תלויים.

2. משתנים מתפלגים נורמלית.

3. שוויון שונויות.

ב. גודל המדגם : 14. משתנה ב"ת : בית הספר, בעל 3 רמות.

ג.  $\bar{X} = 71.8, \hat{S} = 12.93, \bar{X} = 73.75, \hat{S} = 19.29, \bar{X} = 80.4, \hat{S} = 5.46$

ד. להלן טבלה :

F	MS	df	SS	מקור השונות
	100.3	2	200.6	B
	173.2	11	1904.75	W
0.58		13	2105.35	סה"כ

ה.  $F > 3.98$  .

ו. נקבל את  $H_0$  .

(3) א.  $H_0 : \mu_1 = \mu_2 = \mu_3 = \mu_4$  . ב. נדחה את  $H_0$  . ג. כן.

$$H_1 : otherwise$$

הנחות :

1. מדגמים בלתי תלויים.

2. שוויון שונויות.

3. משתנים מתפלגים נורמלית.

4) נקבל את  $H_0$  : נכריע שאין הבדל מובהק בין האופים מבחינת תוחלת זמן הכנה.

$$H_0 : \mu_1 = \mu_2 = \mu_3 = \mu_4 \quad (5)$$

$$H_1 : otherwise$$

הנחות :

1. מדגמים בלתי תלויים.

2. שוויון שונות.

3. משתנים מתפלגים נורמלית.

נקבל את  $H_0$  : לסוג סוללה אין השפעה של תוחלת החיים ברמת ביטחון של 10%.

6) להלן טבלה :

### ANOVA

	Sum of Squares	df	Mean Square	F	Sig.
Between Groups	357.450	2 ב	178.725 ג	18.36 ה	.000
Within Groups	165.5 א	17	9.735 ד		
Total	522.950	19			

$$H_0 : \mu_1 = \mu_2 = \mu_3 \quad (7)$$

$$H_1 : otherwise$$

הנחות :

1. מדגמים בלתי תלויים.

2. משתנים מתפלגים נורמלית.

3. שוויון שונות.

נדחה את  $H_0$  : ברמת ביטחון של 5% קיים הבדל במינונים השונים מבחינת תוחלת הדופק.

ב. ראה וידאו. ג. כן. ד.  $\mu_{20} = \mu_{10} > \mu_{30}$ .

8) א. 5 ב. 25

ג. נדחה את  $H_0$  : יש לפחות שני בתי ספר בעיר עם תוחלת רמת ציונים שונה.

ד.  $(\mu_3 = \mu_4) < (\mu_1 = \mu_2 = \mu_3)$ .

# מבוא לסטטיסטיקה

פרק 32 - מקדם המתאם ( מדד קשר ) הלינארי ומובהקותו

תוכן העניינים

1. מקדם המתאם הלינארי ( פירסון ) ..... 189
2. חישוב מקדם המתאם הלינארי ( פירסון ) ..... 200
3. בדיקת השערות על מקדם המתאם הלינארי ..... 205

## מקדם המתאם (מדד קשר) הלינארי ומובהקותו

### מדד הקשר הלינארי (פירסון) – מבוא

מעוניינים לבדוק עד כמה קיים קשר מסוג קשר לינארי (קו ישר) בין שני משתנים. שני המשתנים שאנו בודקים לגביהם קשר צריכים להיות משתנים כמותיים. מבחינת סולמות מדידה כל משתנה נחקר צריך להיות מסולם רווחים או מנה. בדרך כלל המשתנה המוצג כ-  $Y$  הוא המשתנה התלוי והמשתנה המוצג ב-  $X$  הוא המשתנה הבלתי תלוי. תיאור גרפי לנתונים נעשה על ידי דיאגרמת פיזור. בדיאגרמת פיזור אנחנו מסמנים כל תצפית בנקודה לפי שיעור ה-  $X$  ושיעור ה-  $Y$  שלה. דיאגרמת הפיזור נותנת אינדיקציה גרפית על הקשר בין שני המשתנים.

### דוגמה (פתרון בהקלטה) :

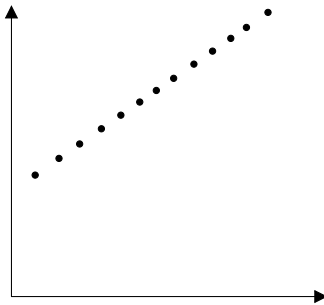
בבניין 8 דירות בדקו לכל דירה את מספר החדרים שלה וכמו כן את מספר הנפשות הגרות בדירה. להלן התוצאות שהתקבלו :

4	4	3	3	2	3	2	2	מספר חדרים בדירה
5	4	4	3	2	2	1	0	מספר הנפשות בדירה

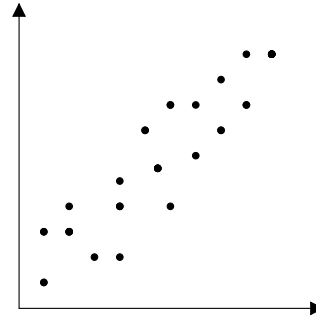
- (1) כמה תצפיות ישנן בדוגמה?
- (2) כמה משתנים ישנם בדוגמה, מי הם?
- (3) שרטטו לנתונים דיאגרמת פיזור.
- (4) מי המשתנה התלוי ומיהו המשתנה הבלתי תלוי?

## דיאגרמות פיזור לקשר בין משתנים וניתוחם

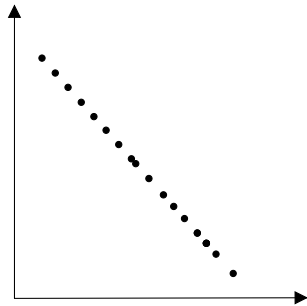
קשר לינארי חיובי מלא



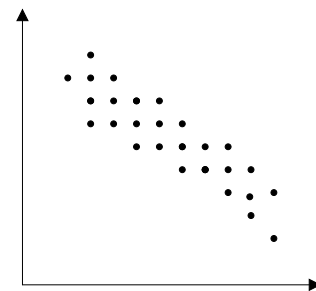
קשר לינארי חיובי חלקי



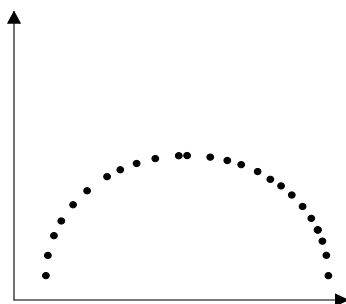
קשר לינארי שלילי מלא



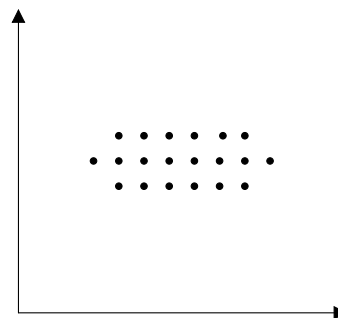
קשר לינארי שלילי חלקי



אין קשר לינארי



אין קשר



### משמעות מקדם המתאם:

כדי לבדוק עד כמה קיים קשר לינארי בין שני המשתנים ישנו מדד קשר שנקרא גם מקדם המתאם הלינארי הידוע גם בשם מקדם המתאם של פירסון. מקדם מתאם זה מקבל ערכים בין 1 ל-1.

-1

0

1

מקדם מתאם 1-1 או 1 אומר שקיים קשר לינארי מלא בין המשתנים שניתן לבטאו על ידי נוסחה של קו ישר:  $y = ax + b$ .

### מתאם חיובי מלא (מקדם מתאם 1):

קיים קשר לינארי מלא בו השיפוע  $a$  יהיה חיובי ואילו מתאם שלילי (מקדם מתאם-1) מלא אומר שקיים קשר לינארי מלא בו השיפוע  $a$  שלילי.

### מתאם חיובי חלקי:

ככל שמשנתנה אחד עולה לשני יש נטייה לעלות בערכו אבל לא קיימת נוסחה לינארית שמקשרת את  $X$  ל- $Y$  באופן מוחלט ואילו מתאם שלילי חלקי אומר שככל שמשנתנה אחד עולה לשני יש נטייה לרדת אבל לא קיימת נוסחה לינארית שמקשרת את  $X$  ל- $Y$  באופן מוחלט. ככל שמקדם המתאם קרוב לאפס עוצמת הקשר יותר חלשה וככל שהמדד רחוק יותר מהאפס העוצמה יותר חזקה. לסיכום, מקדם המתאם בודק את עוצמת הקשר הלינארי, ואת כיוון הקשר.

מקדם המתאם הלינארי אינו מושפע מיחידות המדידה. כל שינוי ביחידות המדידה של המשתנים, לא ישנה את מקדם המתאם.

מדד הקשר הלינארי באוכלוסייה, שנקרא גם מקדם המתאם של פירסון או מדד הקשר של פירסון באוכלוסייה מסומן ב:  $\rho$  - פרמטר המאפיין את עוצמת הקשר הלינארי באוכלוסייה וכיוונו בין שני המשתנים הנחקרים. כאשר:

$r$  - מדד הקשר הלינארי במדגם שמהווה אומדן לפרמטר  $\rho$ .

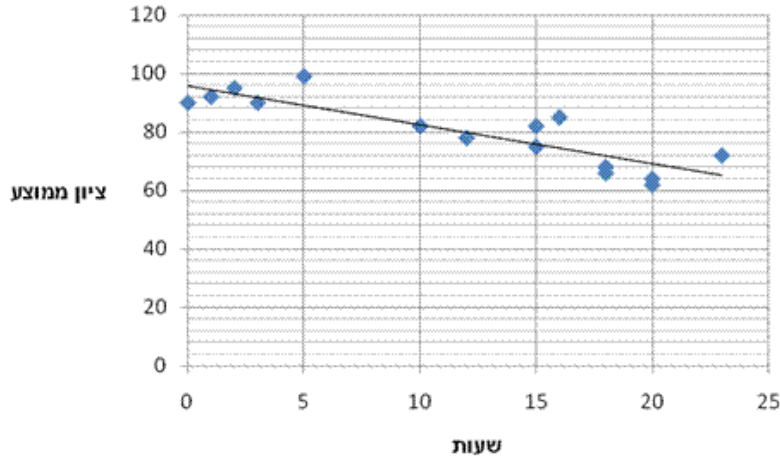
קיומו של מתאם בין שני משתנים אינו מצביע על סיבתיות בהכרח. למשל, אם נמצא מתאם חיובי בין כמות הסוכרזית שאדם אוכל לבין במשקל שלו אין זה אומר שהסיבה להשמנה היא הסוכרזית. מדד הקשר של פירסון הוא מדד קשר סימטרי, כלומר אם נחליף את  $X$  ב- $Y$  התוצאה תהיה זהה.

### דוגמה (פתרון בהקלטה):

- מה ניתן להגיד על מקדם המתאם של שני המשתנים על סמך דיאגרמת הפיזור ששרטטנו?
- אם היינו משנים את השרטוט כך שבציר האנכי היה המשתנה "מספר החדרים" ובציר האופקי היה "מספר הנפשות", האם הדבר היה משפיע על מדד הקשר של פירסון?

**שאלות**

1) חוקר רצה לאפיין את הקשר בין מספר השעות בשבוע שסטודנט מקדיש לבילויים לבין הציון הממוצע שלו בסוף הסמסטר. לשם כך הוא אסף נתונים של 15 סטודנטים ויצר דיאגרמת פיזור:



- א. מיהו המשתנה הבלתי תלוי?
- ב. מה ניתן לומר על כיוון הקשר בין מספר שעות הבילוי השבועיות לבין הציון הממוצע של הסמסטר? מה ניתן להגיד על עוצמת הקשר?

2) להלן טבלה המסכמת את מקדמי המתאם הלינארי בין ציוני מבחנים שונים שהתקבלו עבור תלמידים בכיתה מסוימת:

מתמטיקה	לשון	ספורט	
?	-0.7	?	ספורט
0.6	?	?	לשון
?	?	-0.1	מתמטיקה

- א. השלימו את מקדמי המתאם שמסומנים בסימן שאלה בטבלה.
- ב. בין אילו שני ציוני מקצועות שונים קיים מתאם בעל העוצמה החזקה ביותר?

3) במחקר נתבקשו לבדוק את הקשר בין מספר שעות התרגול של קורס לבין הציון הסופי שלו. להלן תוצאות מדגם שהתקבל:

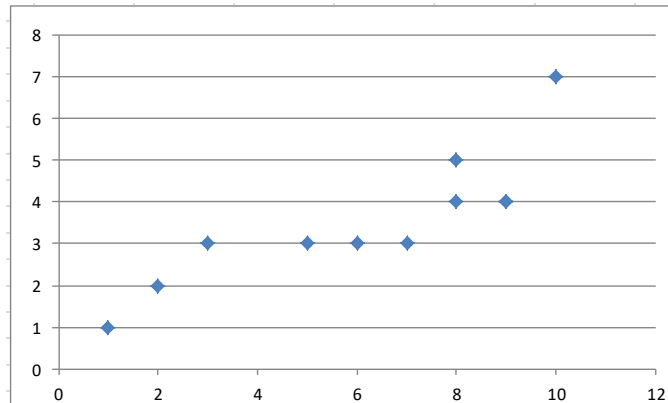
שעות תרגול	ציון סופי
20	90
25	90
30	95
15	60
30	90
20	85
10	50

- א. מיהו המשתנה התלוי ומיהו המשתנה הבלתי תלוי בדוגמה זו?
- ב. שרטטו דיאגרמת פיזור לנתונים.
- ג. מה ניתן לומר על הקשר בין המשתנים במדגם?
- ד. מסתבר שבסופו של דבר נתנו פקטור של 5 נקודות לציון הסופי. כיצד הדבר היה משנה את מקדם המתאם של המדגם?

4) בתחנה המטאורולוגית רצו לבדוק את הקשר שבין הטמפרטורה במעלות צלזיוס לכמות המשקעים במ"מ. הם אספו נתונים על 10 ימים במהלך חודש ינואר. המתאם שהתקבל היה 0.8.

- א. השלימו את המשפט:  
בחודש ינואר ככל שהטמפרטורה היומית נוטה לרדת, כך כמות המשקעים נוטה \_\_\_\_\_.
- ב. הוחלט להעביר את הטמפרטורה למעלות פרנהייט על מנת שיוכלו להשוות אותה לנתונים מארה"ב. נוסחת המעבר היא  $F^0 = 32 + \frac{9}{5}C^0$ .  
כיצד הדבר ישפיע על מקדם המתאם בין הטמפרטורה במעלות פרנהייט לכמות המשקעים במ"מ?

5) להלן דיאגרמת פיזור המראה קשר בין שני משנים:

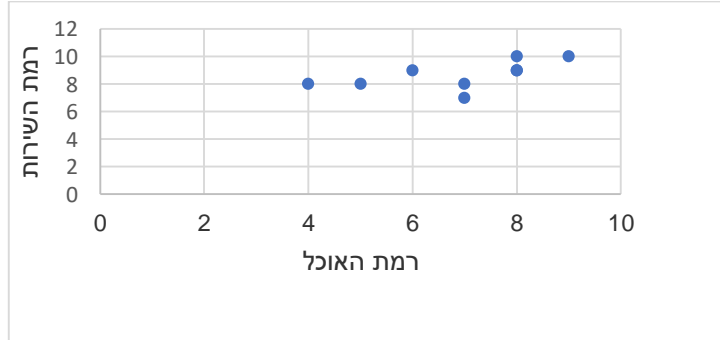


- א. השלימו: ניתן לראות שהקשר הוא לינארי \_\_\_\_\_ (מלאו חלקי) כיוון הקשר הוא (חיובי/שלילי).
- ב. השלימו: אם היינו מוסיפים תצפית שערך ה- $X$  שלה הוא 4 וערך ה- $Y$  שלה הוא 7, מקדם המתאם של פירסון היה \_\_\_\_\_ (גדלו קטן/לא משתנה).

**שאלות רב ברירה (יש לבחור את התשובה הנכונה):**

- 6) חוקר אקלים דגם כמה ימים בשנה ומדד את הטמפרטורה בטורונטו שבקנדה ואת הטמפרטורה בסידני שבאוסטרליה באותו היום. הוא חישב ומצא מקדם מתאם שלילי בין הטמפרטורה היומית בטורונטו לבין הטמפרטורה היומית בסידני. משמעות מקדם המתאם השלילי במדגם:
- א. אין קשר בין הטמפרטורה בטורונטו לבין הטמפרטורה בסידני בימים שנדגמו.  
ב. במדגם, רוב הטמפרטורות בטורונטו היו שליליות.  
ג. ההפרש בין הטמפרטורה בטורונטו לבין הטמפרטורה באוסטרליה, במדגם זה, הוא שלילי.  
ד. במדגם יש נטייה שהטמפרטורה יורדת בטורונטו לטמפרטורה לעלות בסידני.

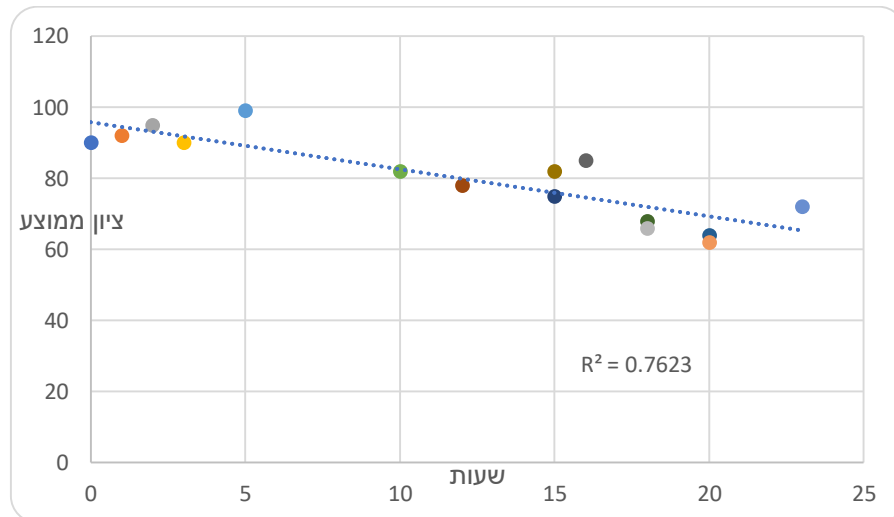
- 7) בסקר שביעות רצון שנערך בבית הקפה "פת לחם" התבקשו הלקוחות לדרג את מידת שביעות הרצון שלהם (בסולם 1-10) בשני נושאים: רמת האוכל ורמת השירות.



מה יהיה ערכו של מקדם המתאם ( $r$ )?

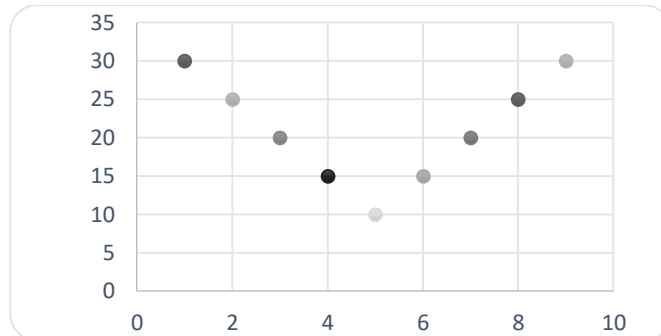
- א.  $r = -0.3$   
 ב.  $r = 0$   
 ג.  $r = 1.125$   
 ד.  $r = 0.593$

- 8) חוקר רצה לאפיין את הקשר בין מספר השעות בשבוע שסטודנט מקדיש לבילויים לבין הציון הממוצע שלו בסוף הסמסטר. לשם כך הוא אסף נתונים של 15 סטודנטים ויצר דיאגרמת פיזור.



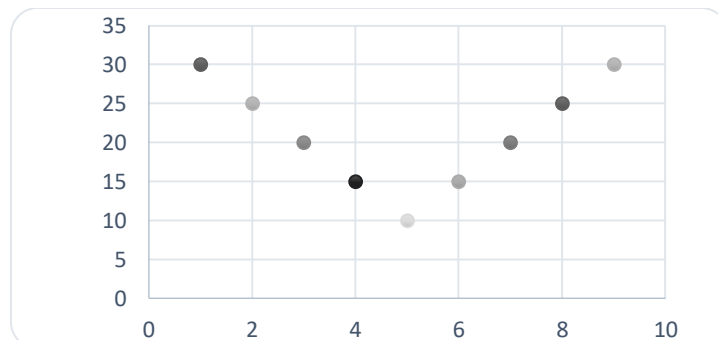
- מה ניתן לומר על כיוון הקשר במדגם בין מספר שעות הבילוי השבועיות לבין הציון הממוצע של הסמסטר?
- א. ככל שמבלים יותר הציון נוטה לרדת.  
 ב. אין קשר בין שעות הבילוי לציון.  
 ג. ככל שמבלים פחות הציון נוטה לרדת.  
 ד. ככל שהציון נוטה לרדת הסטודנט מבלה פחות.

9) התרשים הבא מתאר קשר בין שני משתנים, איזה מהמתאמים הבאים הוא המתאים ביותר לתיאור הקשר בין שני המשתנים?



- א.  $r = 1$  היות ושני המשתנים יוצרים קוים ישרים.  
 ב.  $r = 2$  היות ויש שני קוים בעלי קשר מושלם.  
 ג.  $r = 0$  היות והקו יורד ואחר כך עולה באותו האופן.  
 ד.  $r = \pm 1$  היות ויש קו עולה וגם קו יורד.

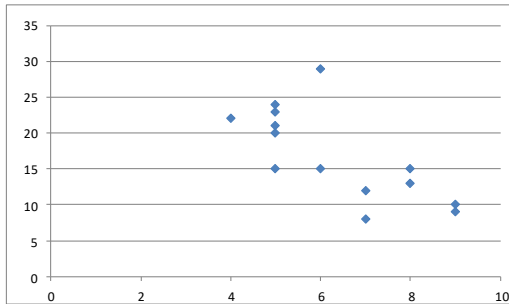
10) התרשים הבא מתאר דיאגרמת פיזור.



איזו טענה נכונה?

- א. בתרשים מוצג הקשר בין שני משתנים.  
 ב. בתרשים מוצג הקשר בין 9 משתנים.  
 ג. בתרשים מוצג הקשר בין 10 משתנים.  
 ד. אין לדעת כמה משתנים מוצגים בתרשים.

בגרף הבא מתוארת דיאגרמת פיזור של שני משתנים:



$X$  - (משתנה בלתי תלוי בציר האופקי)  
ו-  $Y$  (משתנה תלוי).

במדגם התקבל  $r^2 = 0.52$ .

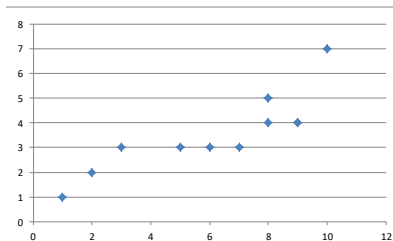
11) לאור הנתונים המופיעים בדיאגרמה, איזה מבין הערכים הבאים מתאים להיות התוצאה של  $r$ ?

- א. -0.52
- ב. 0.72
- ג. -0.72
- ד. 0.52

12) אם מקדם המתאם בין שני משתנים הוא 1, אזי:

- א. הערכים של המשתנים הם חיוביים.
- ב. עבור כל תצפית ערך של משתנה אחד שווה לערך של המשתנה השני.
- ג. הקשר הלינארי הוא בעוצמה חזקה.
- ד. אף אחת מהתשובות לא בהכרח נכונה.

13) להלן דיאגרמת פיזור:



מה יהיה מקדם המתאם בין שני המשתנים?

- א. 1
- ב. 0.85
- ג. 0.15
- ד. 0

14) בבדיקת קשר בין שני משתנים התקבל:  $r = -1$ .

- א. קיימת נוסחה לינארית הקושרת בין כל התצפיות.
- ב. לא קיים קשר בין שני המשתנים.
- ג. ככל שמשתנה אחד נוטה לרדת גם לשני יש נטייה לרדת.
- ד. קיים קשר בין שני המשתנים, אך לא ניתן לדעת מאיזה סוג.

15) לפי הפתגם "רחוק מהעין, רחוק מהלב", יש קשר \_\_\_\_\_ בין קרבה פיזית לקרבה נפשית.

- א. חיובי
- ב. שלילי
- ג. אפסי
- ד. לא ניתן לדעת.

16) מבחן אמי"ר הינו מבחן מיון באנגלית של המרכז הארצי לבחינות והערכה. הציון המינימלי בבחינה הינו 150 והמקסימלי הינו 250. בקורס הכנה למבחן השתתפו 19 תלמידים. להלן הציונים שלהם על פי פלט שהתקבל:

	159
	170
	180
	185
	204
	224
	236
	212
	168
	189
	195
	163
	187
	206
	201
	223
	242
	203
	205
197.47	AVERAGE
536.25	VARPA

יש להוסיף עמודה נוספת לצד עמודת הציונים שתראה לכל תלמיד כמה נקודות חסרות לו כדי להשלים לציון המקסימלי בבחינה.

מה יהיה מקדם המתאם בין שתי העמודות (כלומר, מקדם המתאם בין הציון לבין הנקודות החסרות)?

- א. -1
- ב. 1
- ג. -0.5
- ד. 0.5

17) מקדם המתאם בין שטחי דירה למחיר שלהם חושב ונמצא 1.2. מה נובע מכך?

- א. ככל שהדירה גדולה יותר בשטחה כך היא יקרה יותר.
- ב. ככל שהדירה קטנה יותר בשטחה כך היא זולה יותר.
- ג. לא קיים קשר בין שטח הדירה למחיר הדירה.
- ד. מצב כזה שמתואר הנתונים לא אפשרי.

18) אם ניקח 10 אנשים ונרשום לכל אדם את הגובה במטר וכמו כן את הגובה בס"מ. מה יהיה מקדם המתאם בין גובה האדם במטר לגובה האדם בס"מ?

- א. 1
- ב. 0
- ג. -1
- ד. לא ניתן לדעת.

- 19) נמצא מתאם חיובי בעוצמה גבוהה בין  $X$  – ציון בבגרות בלשון ל  $Y$  – ציון בבגרות במתמטיקה. אילו מהמשפטים הבאים נכון?
- א. ניתן לומר שאחת מהסיבות להבדלים שיש לסטודנטים במתמטיקה נובעים מההבדלים שיש להם בלשון.
- ב. קיימת נוסחה של קו ישר שקושרת בין ציון בבגרות במתמטיקה לציון בבגרות בלשון.
- ג. ללא יוצא מן הכלל, ניתן להגיד שכל תלמיד שמצליח יותר מתלמיד אחר בלשון גם יצליח יותר מאותו תלמיד במתמטיקה.
- ד. אף אחד מהטענות שהוצגו אינה בהכרח נכונה.

- 20) עבור סדרה של תצפיות מדדו את  $X$  ואת  $Y$ . נמצא שעבור כל התצפיות שהערך של  $Y$  ירד הערך של  $X$  בהכרח ירד ללא יוצא מן הכלל. מקדם המתאם של פירסון יהיה בהכרח:
- א. 1
- ב. -1
- ג. 0
- ד. אף אחת מהתשובות.

### תשובות סופיות

- (1) א. שעות בילוי.  
 ב. הקשר חלקי, כיוון הקשר שלילי.  
 (2) א. להלן טבלה:

מתמטיקה	לשון	ספורט	
0.1	-0.7	1	ספורט
0.6	1	-0.7	לשון
1	0.6	-0.1	מתמטיקה

- (3) א. ב"ת- מס' שעות התרגול, תלוי- ציון.  
 ג. קשר לינארי חיובי חלקי.  
 (4) א. לעלות.  
 (5) א. חלקי, חיובי.  
 (6) ד' (7) ד' (8) א'  
 (9) ג' (10) א'  
 (11) ג' (12) ד' (13) ב'  
 (14) א' (15) א'  
 (16) א' (17) ד' (18) א'  
 (19) ד' (20) ד'

## מדדי קשר – מדד הקשר הלינארי (פירסון) – רקע

המטרה היא לבדוק האם קיים קשר (קורלציה, מתאם) של קו ישר בין שני משתנים כמותיים. מבחינת סולמות המדידה קשר בין סולמות רווחים ומנה. בדרך כלל,  $X$  הוא המשתנה המסביר (הבלתי תלוי) ו- $Y$  הוא המשתנה המוסבר (התלוי).

**דוגמה:**

נרצה להסביר כיצד השכלה של אדם הנמדדת בשנות לימוד –  $X$  מסבירה את ההכנסה שלו  $Y$ . במקרה זה שנות ההשכלה זהו המשתנה המסביר (או הבלתי תלוי) ואנחנו מעוניינים לבדוק כיצד שינויים בשנות ההשכלה של אדם יכולים להסביר את השינויים שלו בהכנסה, ולכן רמת ההכנסה זהו המשתנה המוסבר התלוי במשתנה המסביר אותו.

**שלב ראשון:** נהוג לשרטט דיאגרמת פיזור. זו דיאגרמה שנותנת אינדיקציה ויזואלית על טיב הקשר בין שני המשתנים.

**דוגמה:**

מס' דירה	$X$	$Y$
1	3	2
2	2	2
3	4	3
4	3	3
5	5	4

בבניין של 5 דירות בדקו את הנתונים הבאים:  
 $X$  - מס' חדרים בדירה.  $Y$  - מס' נפשות הגרות בדירה.  
 להלן התוצאות שהתקבלו:

נשרטט מנתונים אלה דיאגרמת פיזור (הדיאגרמה המלאה בסרטון). נתבונן בכמה מקרים של דיאגרמות פיזור ונתח אותן (הדיאגרמות המלאות בסרטון).

**שלב שני:** מחשבים את מקדם המתאם (מדד הקשר) שבודק עד כמה קיים קשר לינארי בין שני המשתנים. המדד (ניקרא גם מדד הקשר של פירסון) מכמת את מה שניראה בשלב הראשון רק בעין.

המדד בודק את כיוון הקשר (חיובי או שלילי) ואת עוצמת הקשר (חלש עד חזק). מקדם מתאם זה מקבל ערכים בין -1 ל-1.  
 מקדם מתאם -1 או 1 אומר שקיים קשר לינארי מוחלט ומלא בין המשתנים שניתן לבטאו על ידי הנוסחה:  $y = bx + a$ .

**מתאם חיובי מלא (מקדם מתאם 1):**

קיים קשר לינארי מלא בו השיפוע  $b$  יהיה חיובי ואילו מתאם שלילי מלא אומר שקיים קשר לינארי מלא בו השיפוע  $b$  שלילי (מקדם מתאם -1).

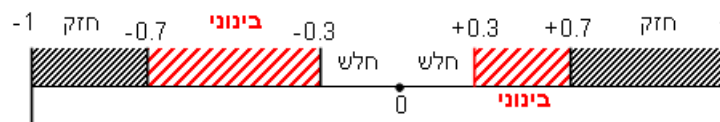
### מתאם חיובי חלקי:

ככל שמשתנה אחד עולה לשני יש נטייה לעלות בערכו אבל לא קיימת נוסחה לינארית שמקשרת את  $X$  ל- $Y$  באופן מוחלט.

### מתאם שלילי חלקי:

ככל שמשתנה אחד עולה לשני יש נטייה לרדת אבל לא קיימת נוסחה לינארית שמקשרת את  $X$  ל- $Y$  באופן מוחלט.

ככל שערך מקדם המתאם קרוב לאפס נאמר שעוצמת הקשר חלשה יותר וככל שמקדם המתאם רחוק מהאפס נאמר שעוצמת הקשר חזקה יותר:



מקדם המתאם יסומן באות  $r$ .

כדי לחשב את מקדם המתאם, יש לחשב את סטיות התקן של כל משתנה ואת השונות המשותפת.

$$COV(x, y) = \frac{\sum (x - \bar{x})(y - \bar{y})}{n} = \frac{\sum xy}{n} - \bar{x} \cdot \bar{y} : \text{שונות משותפת}$$

$$s_x^2 = \frac{\sum_{i=1}^n (x_i - \bar{x})^2}{n} = \frac{\sum_{i=1}^n x_i^2}{n} - \bar{x}^2 : \text{שונות של המשתנה } X$$

$$S_y^2 = \frac{\sum_{i=1}^n (y_i - \bar{y})^2}{n} = \frac{\sum_{i=1}^n y_i^2}{n} - \bar{y}^2 : \text{שונות המשתנה } Y$$

$$r_{xy} = \frac{COV(x, y)}{S_x \cdot S_y} : \text{מקדם המתאם הלינארי}$$

**שאלות**

1) להלן נתונים לגבי שישה תלמידים שנגשו למבחן. בדקו לגבי כל תלמיד את הציון שלו בסוף הקורס וכמו כן את מספר החיסורים שלו מהקורס.

מספר חיסורים	2	1	0	2	3	4
ציון	80	90	90	70	70	50

- א. שרטטו דיאגרמת פיזור לנתונים. מה ניתן להסיק מהדיאגרמה על טיב הקשר בין מספר החיסורים של תלמיד לציונו? מיהו המשתנה הבלתי תלוי ומיהו המשתנה התלוי?
- ב. חשבו את מדד הקשר של פירסון. האם התוצאה מתיישבת עם תשובתך לסעיף א'?
- ג. הסבירו, ללא חישוב, כיצד מקדם המתאם היה משתנה אם היה מתווסף תלמיד שהחסיר 4 פעמים וקיבל ציון 80?

2) במחקר רפואי רצו לבדוק האם קיים קשר בין רמת ההורמון  $X$  בדם החולה לרמת ההורמון  $Y$  שלו. לצורך כך מדדו את רמת ההורמונים ההלו עבור חמישה חולים. להלן התוצאות שהתקבלו:

א. מה הממוצע של כל רמת הורמון?

ב. מהו מקדם המתאם בין ההורמונים? ומה משמעות התוצאה?

$X$	$Y$
10	12
14	15
15	15
18	17
20	21

3) נסמן ב- $X$  את ההכנסה של משפחה באלפי ₪. נסמן ב- $Y$  את ההוצאות של משפחה באלפי ₪. נלקחו 20 משפחות והתקבלו התוצאות הבאות:

$$\sum_{i=1}^{20} Y_i = 200 \qquad \sum_{i=1}^{20} X_i = 240$$

$$\sum_{i=1}^{20} (Y_i - \bar{Y})^2 = 76 \qquad \sum_{i=1}^{20} (X_i - \bar{X})^2 = 76$$

$$\sum_{i=1}^{20} (X_i - \bar{X})(Y_i - \bar{Y}) = 60.8$$

- א. חשב את מדד הקשר הלינארי בין  $X$  ל- $Y$ . מיהו המשתנה התלוי?
- ב. מה המשמעות של התוצאה שקיבלת בסעיף א'?

- (4) נסמן ב- $X$  את ההכנסה של משפחה באלפי ₪. נסמן ב- $Y$  את ההוצאות של משפחה באלפי ₪. נלקחו 20 משפחות והתקבלו התוצאות הבאות:

$$\sum_{i=1}^{20} Y_i = 200 \quad \sum_{i=1}^{20} X_i = 240$$

$$\sum_{i=1}^{20} Y_i^2 = 2080 \quad \sum_{i=1}^{20} X_i^2 = 2960$$

$$\sum_{i=1}^{20} X_i Y_i = 2464$$

חשבו את מדד הקשר הלינארי בין  $X$  ל- $Y$ .

- (5) במוסד אקדמי ציון ההתאמה מחושב כך: מכפילים את הציון הממוצע בבגרות ב-3 ומפחיתים 2 נקודות. ידוע שעבור 40 מועמדים סטיית התקן של ממוצע הציון בבגרות הייתה 2.  
מה מקדם המתאם בין ציון ההתאמה לציון הממוצע בבגרות שלהם?

- (6) להלן רשימת טענות, לגבי כל טענה קבעו נכון/לא נכון ונמקו.
- מתווך דירות המיר מחירי דירות מדולר לשקל. נניח שדולר אחד הוא 3.5 ₪. אם מתווך הדירות יחשב את מדד הקשר של פירסון בין מחיר הדירה בשקלים למחיר הדירה בדולרים הוא יקבל 1.
  - לסדרה של נתונים התקבל  $\bar{X} = \bar{Y} = 6$ ,  $S_x = S_y = 1$ . לכן, מדד הקשר של פירסון יהיה 1.
  - אם השונות המשותפת של  $X$  ושל  $Y$  הינה 0 אז בהכרח גם מקדם המתאם של פירסון יהיה 0.

### שאלות רב-ברירה:

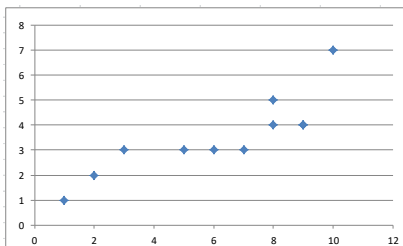
- (7) נמצא שקיים מקדם מתאם שלילי בין הציון בעברית לציון בחשבון בבחינה לכן:
- הדבר מעיד שהציונים בכיתה היו שליליים.
  - ככל שהציון של תלמיד יורד בחשבון יש לו נטייה לרדת בעברית.
  - ככל שהציון של תלמיד עולה בחשבון יש לו נטייה לרדת בעברית.
  - אף אחת מהתשובות לא נכונה.

8) נלקחו 20 מוצרים ונבדק ביום מסוים המחיר שלהם בדולרים והמחיר שלהם בש"ח (באותו היום ערך הדולר היה-4.2ש). מהו מקדם המתאם בין המחיר בדולר למחיר בש"ח?

- א. 1  
 ב. 0  
 ג. 4.2  
 ד. לא ניתן לדעת.

9) להלן דיאגרמת פיזור:

מה יהיה מקדם המתאם בין שני המשתנים?



- א. 1  
 ב. 0.85  
 ג. 0.15  
 ד. 0

## תשובות סופיות

- 1) א. משתנה תלוי: ציון, משתנה ב"ת: מס' חיסורים. ראה דיאגרמה בוידאו. ניתן להסיק שקיים קשר לינארי שלילי וחלקי בין מספר החיסורים לציון התלמיד.  
 ב. -0.9325.  
 ג. הקשר יישאר לינארי שלילי חלקי אך עוצמתו תחלש.
- 2) א.  $\bar{y} = 16$ ,  $\bar{x} = 15.4$     ב.  $r_{xy} = 0.96$ .
- 3) א. 0.8  
 4) 0.8  
 5) 1  
 6) א. נכון.    ב. לא נכון.    ג. נכון.  
 7) ג'.  
 8) א'.  
 9) ב'.

### בדיקת השערות על מקדם המתאם הלינארי – רקע

מדד הקשר הלינארי באוכלוסייה, שנקרא גם מקדם המתאם של פירסון או מדד הקשר של פירסון באוכלוסייה מסומן ב:  $\rho$  - פרמטר המאפיין את עוצמת הקשר הלינארי וכיוונו בין שני המשתנים הנחקרים באוכלוסייה. כאשר:  
 $r$  - מדד הקשר הלינארי במדגם שמהווה אומדן לפרמטר  $\rho$ .

**השערת האפס:** תהיה שבאוכלוסייה לא קיים כלל קשר לינארי בין שני המשתנים  $H_0: \rho = 0$ .  
 ההנחה שעליה אנו מתבססים בתהליך היא ששני המשתנים הנחקרים מתפלגים דו נורמלית.

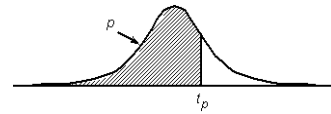
$$t = \frac{r\sqrt{n-2}}{\sqrt{1-r^2}} \sim t(n-2)$$

סטטיסטי זה מתפלג  $t$  עם  $n-2$  דרגות חופש.

$H_0: \rho = 0$	$H_0: \rho = 0$	$H_0: \rho = 0$	השערת האפס:
$H_1: \rho > 0$	$H_1: \rho < 0$	$H_1: \rho \neq 0$	השערת המחקר:
$t \geq t_{1-\alpha}$	$t \leq -t_{1-\alpha}$	$t \geq t_{1-\alpha}$ $\gamma$ א $t \leq -t_{1-\alpha}$	כלל ההכרעה: אזור דחייה של השערת האפס

## טבלת ערכים קריטיים של $t$ - נספח: טבלת התפלגות T

P



דרגות חופש	0.75	0.90	0.95	0.975	0.99	0.995	0.9995
1	1.000	3.078	6.314	12.709	31.821	63.657	636.619
2	0.816	1.886	2.920	4.303	6.965	9.925	31.598
3	0.765	1.638	2.353	3.182	4.541	5.841	12.941
4	0.741	1.533	2.132	2.776	3.747	4.604	8.610
5	0.727	1.476	2.015	2.571	3.365	4.032	6.859
6	0.718	1.440	1.943	2.447	3.143	3.707	5.959
7	0.711	1.415	1.895	2.365	2.998	3.499	5.405
8	0.706	1.397	1.860	2.306	2.896	3.355	5.041
9	0.703	1.383	1.833	2.262	2.821	3.250	4.781
10	0.700	1.372	1.812	2.228	2.764	3.169	4.587
11	0.697	1.363	1.796	2.201	2.718	3.106	4.437
12	0.695	1.356	1.782	2.179	2.681	3.055	4.318
13	0.694	1.350	1.771	2.160	2.650	3.012	4.221
14	0.692	1.345	1.761	2.145	2.624	2.977	4.140
15	0.691	1.341	1.753	2.131	2.602	2.947	4.073
16	0.690	1.337	1.746	2.120	2.583	2.921	4.015
17	0.689	1.333	1.740	2.110	2.567	2.898	3.965
18	0.688	1.330	1.734	2.101	2.552	2.878	3.922
19	0.688	1.328	1.729	2.093	2.539	2.861	3.883
20	0.687	1.325	1.725	2.086	2.528	2.845	3.850
21	0.686	1.323	1.721	2.080	2.518	2.831	3.819
22	0.686	1.321	1.717	2.074	2.508	2.819	3.792
23	0.685	1.319	1.714	2.069	2.500	2.807	3.767
24	0.685	1.318	1.711	2.064	2.492	2.797	3.745
25	0.684	1.316	1.708	2.060	2.485	2.787	3.725
26	0.684	1.315	1.706	2.056	2.479	2.779	3.707
27	0.684	1.314	1.703	2.052	2.473	2.771	3.690
28	0.683	1.313	1.701	2.048	2.467	2.763	3.674
29	0.683	1.311	1.699	2.045	2.462	2.756	3.659
30	0.683	1.310	1.697	2.042	2.457	2.750	3.646
40	0.681	1.303	1.684	2.021	2.423	2.704	3.551
60	0.679	1.296	1.671	2.000	2.390	2.660	3.460
120	0.677	1.289	1.658	1.980	2.358	2.617	3.373
∞	0.674	1.282	1.645	1.960	2.326	2.576	3.291

**שאלות**

1) להלן נתונים על הוותק בעבודה (בשנים) ועל השכלה (בשנים) במדגם של 10 עובדים :

10	9	8	7	6	5	4	3	2	1	נחקר
24	17	28	5	9	16	8	2	18	13	X-וותק
15	12	8	13	12	11	8	17	14	12	Y-השכלה

מקדם המתאם חושב והתקבל :  $-0.31$ .

- א. האם קיים מתאם בין וותק העובד להשכלתו? בדקו ברמת מובהקות של 5%?
- ב. אם הוותק של העובד היה נמדד בחודשים האם התשובה לסעיף א' הייתה משתנה?

2) מחקר התעניין לבדוק את הקשר בין גיל נשים בהריון לרמת ההמוגלובין שלהן בדם בזמן הריון. נדגמו 7 נשים והתקבלו התוצאות הבאות :

נחקרת	1	2	3	4	5	6	7
המוגלובין	14.7	13.5	9.7	12	10.8	13	10.3
גיל	39	34	30	29	28	26	23

במדגם חושב מדד הקשר של פירסון להיות  $0.7$ .

- א. האם ניתן לומר שבמדגם אם אישה היא יותר מבוגרת אזי בהכרח יש לה יותר המוגלובין בדם?
- ב. האם ניתן לומר, ברמת מובהקות של 5%, שקיים מתאם בין גיל האישה שבהריון לבין רמת ההמוגלובין שלה בדם?

3) בתחנה המטאורולוגית רצו לבדוק את הקשר שבין הטמפרטורה במעלות צלזיוס לכמות המשקעים במ"מ. הם אספו נתונים על 10 ימים במהלך חודש ינואר. המתאם שהתקבל היה  $-0.8$ .

- א. בדקו ברמת מובהקות של 2.5% האם קיים קשר לינארי שלילי בחודש ינואר בין הטמפרטורה במעלות צלזיוס לבין המשקעים במעלות צלזיוס.
- ב. כיצד הייתה משתנה התשובה לסעיף א אם הינו מוסיפים עוד תצפיות למדגם?
- ג. על סמך טבלת T המצורפת עבור אילו רמות מובהקות ניתן להחליט שקיים קשר לינארי שלילי מובהק?

4) מתווך דירות חישב את מקדם המתאם בין שטח דירה במרכז תל אביב לבין המחיר של הדירה עבור 17 דירות. מקדם המתאם שקיבל היה  $0.6$ .

- א. בדוק ברמת מובהקות של 5% האם ניתן להגיד שקיים קשר ישר עולה בין שטח הדירה לבין מחיר הדירה במרכז תל אביב?
- ב. מהי מובהקות התוצאה לבדיקת ההשערה שקיים קשר ישר עולה בין שטח הדירה לבין מחיר הדירה בתל אביב.

**תשובות סופיות**

- |                           |                           |
|---------------------------|---------------------------|
| ב. לא תשתנה.              | (1) א. לא נדחה את $H_0$ . |
| ב. לא נדחה את $H_0$ .     | (2) א. לא                 |
| ב. לא ניתן לדעת.          | (3) א. נדחה את $H_0$ .    |
| ב. $0.005 < P_v < 0.01$ . | ג. לפחות 0.005.           |
|                           | (4) א. נדחה את $H_0$ .    |

# מבוא לסטטיסטיקה

פרק 33 - רגרסיה

תוכן העניינים

209 ..... 1. כללי

## מדדי קשר – רגרסיה ליניארית:

### רקע:

במידה וקיים קשר חזק בין שני המשתנים הכמותיים נהוג לבצע ניבוי. לבנות קו ניבויים הנקרא גם קו רגרסיה המנבא משתנה אחד על סמך האחר. מדובר בקו שמנבא את  $Y$  על סמך  $X$ . השיטה למציאת הקו הנ"ל נקראת שיטת הריבועים הפחותים והקו המתקבל נקרא קו הרגרסיה או קו הניבויים או קו הריבועים הפחותים.  $a$  - נותן את ערך  $Y$  כאשר  $X$  הנו אפס על גבי קו הניבויים. הוא נקרא החותך של הקו.  $b$  - הוא שיפוע הקו נותן בכמה בעצם  $Y$  משתנה כאשר  $X$  גדל ביחידה אחת על גבי קו הניבויים.

להלן המשוואות למציאת הפרמטרים של קו הרגרסיה:  $Y = bX + a$ ,  $b = r \frac{S_y}{S_x}$ .

לצורך בניית קו ניבויים לניבוי  $X$  על סמך  $Y$  נצטרך לעדכן את הנוסחאות בהתאם.

## שאלות:

- (1) נסמן ב- $X$  את ההכנסה של משפחה באלפי ₪. נסמן ב- $Y$  את ההוצאות של משפחה באלפי ₪. נלקחו 20 משפחות והתקבלו התוצאות הבאות:

$$\sum_{i=1}^{20} Y_i = 200, \quad \sum_{i=1}^{20} X_i = 240$$

$$\sum_{i=1}^{20} (X_i - \bar{X})^2 = 76, \quad \sum_{i=1}^{20} (Y_i - \bar{Y}) = 76$$

$$\sum_{i=1}^{20} (X_i - \bar{X})(Y_i - \bar{Y}) = 60.8$$

- א. חשבו את מדד הקשר הלינארי בין  $X$  ל- $Y$ . מיהו המשתנה התלוי?  
 ב. מצאו את קו הרגרסיה לניבוי ההוצאה של משפחה על סמך הכנסה שלה. הסבירו את משמעות הפרמטרים של קו הרגרסיה.  
 ג. משפחת כהן הכניסה 15,000₪. מה ההוצאה הצפויה שלה?

- (2) נסמן ב- $X$  את ההשכלה של אדם בשנות לימוד. נסמן ב- $Y$  את הכנסתו באלפי ₪. במחקר התקבלו התוצאות הבאות:

$$S_x = 2, \quad S_y = 5, \quad \bar{X} = 14, \quad \bar{Y} = 8, \quad \text{COV}(X, Y) = 7.5$$

- א. חשבו את מדד הקשר של פירסון בין ההשכלה להכנסה.  
 ב. מה ההכנסה הצפויה לאדם שהשכלתו 12 שנים?  
 ג. מה ההשכלה הצפויה לאדם שהכנסתו 10,000₪?

- (3) חוקר רצה לחקור את הקשר הקווי שבין הציון המבחן בסטטיסטיקה לבין מספר שעות ההכנה של הסטודנטים למבחן. במדגם של 100 סטודנטים שנבחנו בקורס נרשמו התוצאות הבאות: הציון הממוצע של הסטודנטים היה 65 עם סטיית תקן של 27. מספר שעות ההכנה הממוצע היה 30 עם סטיית תקן של 18. מקדם המתאם בין הציון לשעות ההכנה היה 0.8.

- א. על פי משוואת הרגרסיה, שעת הכנה נוספת משפרת את ציון המבחן ב-?  
 ב. על פי משוואת הרגרסיה, תלמיד שייגש למבחן ללא שעות הכנה כלל יקבל ציון?  
 ג. מהו קו הרגרסיה לניבוי הציון לפי שעות ההכנה?

- (4) נתונים 2 משתנים  $X$  ו- $Y$ . כמו כן נתון:  $\bar{X} = 1.5, S_x = S_y = 4$ ,  
 וכן שקו הרגרסיה של  $Y$  על בסיס  $X$  הינו:  $Y = -0.2X + 0.5$ .  
 חשבו מהו מקדם המתאם בין  $X$  ל- $Y$ .

**תשובות סופיות:**

- |                      |                       |             |
|----------------------|-----------------------|-------------|
| ג. 12.4 אלפי ₪.      | ב. $Y = 0.8X + 0.4$ . | א. 0.8 (1)  |
| ג. 14.6 שנים.        | ב. 4.25 אלפי ₪.       | א. 0.75 (2) |
| ג. $Y = 1.2X + 29$ . | ב. 29.                | א. 1.2 (3)  |
|                      |                       | א. -0.2 (4) |

# מבוא לסטטיסטיקה

פרק 34 - מדדי קשר-רגרסיה - שונות מוסברת ושונות לא מוסברת

תוכן העניינים

1. כללי ..... 212

## מדדי קשר – רגרסיה – שונות מוסברת ושונות לא מוסברת:

### רקע:

המטרה ברגרסיה היא להסביר את השונות של המשתנה התלוי. למשל, להסביר את השונות של המשכורת באמצעות הוותק או להסביר את השוני בציונים באמצעות כמות החיסורים.

$r^2$  - החלק מהשונות של המשתנה התלוי מוסבר. השונות המוסברת נקראת גם שונות ניבויים. השונות הלא מוסברת נקראת גם שונות טעויות.

## שאלות:

- (1) נמצא קשר חיובי בעוצמה של 0.7 בין שטח דירה למחירה. כמו כן, נתון שסטיית התקן של מחירי הדירות הינה 200.
- איזה אחוז מהשונות של מחירי הדירות מוסבר על ידי שטח הדירה?
  - איזה אחוז מהשונות של מחירי הדירות לא מוסבר על ידי שטח הדירה?
  - מהי השונות המוסברת ומהי השונות הלא מוסברת של מחירי הדירות?
- (2) להלן רשימת טענות, לגבי כל טענה קבעו נכון/לא נכון ונמקו!
- אם שונות הטעויות שווה ל-0 (השונות הלא מוסברת) אז מקדם המתאם של פירסון יהיה 1.
  - אם מקדם המתאם של פירסון בין שני משתנים הוא 1 אזי שונות הטעויות (השונות הלא מוסברת) תהיה 0.
  - אם השונות המשותפת של  $X$  ושל  $Y$  היא 0 אז בהכרח גם מקדם המתאם של פירסון יהיה 0.

## שאלות רב-ברירה:

- (3) בקשר בין שני משתנים התקבל:  $r^2 = 0.64$ , לכן:

- ללא יוצא מן הכלל ככל שערכי משתנה אחד עולה השני יעלה.
- 64% מהשונות של משתנה אחד מוסבר על ידי המשתנה השני.
- הקשר בין שני המשתנים הוא בעוצמה של 0.64.
- כל התשובות נכונות.

- (4) אם מגדילים את  $r^2$ , ניתן לומר כי:

- אחוז השונות המוסברת יקטן.
- אחוז השונות המוסברת יגדל.
- אחוז השונות המוסברת יישאר ללא שינוי.
- סטיית התקן משתנה.
- לא ניתן לדעת.

- (5) בקורס מבוא לכלכלה ניתנו במשך השנה שני מבחנים : מבחן בסוף סמסטר א'  $X$  ומבחן בסוף סמסטר ב'  $Y$ . כאשר בנו את קו הרגרסיה של הציון במבחן סוף סמסטר ב' לפי הציון במבחן סוף סמסטר א' התקבלה שונות טעויות של 80, ושונות ניבויים של 20.
- לפי נתונים אלו, מקדם המתאם בין הציון במבחן סוף סמסטר א' לבין הציון במבחן סוף סמסטר ב' הוא :
- א. 0.44 .  
 ב. - 0.44 .  
 ג. עוצמת ההקשר הלינארי היא 0.44, אך אין אפשרות לדעת את סימנה.  
 ד. אין אפשרות לחשב את מקדם המתאם.  
 ה. 0.35 .

### תשובות סופיות:

- (1) א. 49% . ב. 51% .  
 ג. שונות מוסברת : 19,600, שונות לא מוסברת : 20,400 .
- (2) א. לא נכון . ב. נכון . ג. נכון .
- (3) ב' .
- (4) ב' .
- (5) ג' .

# מבוא לסטטיסטיקה

פרק 35 - שאלות מסכמות בבדיקת השערות

תוכן העניינים

1. שאלות פתוחות מסכמות ..... 215
2. שאלות רב ברירה ( אמריקאיות) ..... 219

## שאלות מסכמות בבדיקת השערות על פרמטרים

### שאלות

- (1) שני חוקרים נתבקשו לבדוק את ההשערות הבאות:  $H_0: \mu = 520$ ,  $H_1: \mu > 520$ . כל חוקר בדק מדגם של 225 נחקרים. ידוע ש- $\sigma = 20$ . חוקר א' קבע את כלל ההכרעה לפי  $\alpha = 0.05$ . חוקר ב' מחליט לדחות  $H_0$  אם  $\bar{X} > 522$ .

- א. למי מהחוקרים הסתברות לטעות מסוג ראשון קטנה יותר?  
 ב. מהי ההסתברות לטעות מסוג שני של חוקר ב' עבור  $\mu_1 = 525$ .  
 ג. הסבר ללא חישוב נוסף, האם ההסתברות לטעות מסוג שני עבור  $\mu_1 = 525$ , של חוקר א' שווה/קטנה/גדולה לזו של חוקר ב'.  
 ד. חוקר א' קיבל במדגם שלו  $\bar{X} = 523$ . מהי מסקנתו?

- (2) ידוע כי תוחלת מספר הלייקים היומי של דנה היא 12 עם סטיית תקן 5. דני טוען שהוא יותר פופולארי מדנה בכך שהוא מקבל יותר לייקים מדנה ביום. על-מנת לבדוק זאת ספר דני כמה לייקים הוא קיבל בכל יום במהלך 7 שבועות (כלומר, ב – 49 ימים) וקיבל סך-הכול 637 לייקים. נניח כי סטיית התקן של מספר הלייקים שדני מקבל ביום זהה לסטיית התקן של דנה.  
 א. מהי רמת המובהקות שכדאי לדני לדרוש, כדי שדנה תשתכנע בצדקת טענתו (שדני פופולרי יותר בכך שהוא מקבל יותר לייקים מדנה ביום).  
 ב. אם דני משער שתוחלת מספר ה"לייקים" שהוא מקבל ביום היא 14 וקובע רמת מובהקות 2.5%, מהי עוצמת המבחן של דני?

B	A	מוצר / רשת
5	5	1
5	4	2
3	5	3
4	7	4

- (3) ברצוננו להשוות בין רשתות A לבין B. לשם כך בחרנו 4 מוצרים, ובדקנו את מחיריהם בשתי הרשתות. להלן התוצאות:  
 הניחו כי המחירים מתפלגים נורמלית.  
 אם יש הנחות נוספות כדי לבצע את המבחן הפרמטרי רשמו אותן.  
 א. בדקו האם קיים הבדל בין הרשתות מבחינת תוחלת המחירים. רמת מובהקות של 5%.  
 ב. חזרו על הסעיף הקודם בהנחה ונבחרו בכל רשת מוצרים באקראי ולא בהכרח אותם מוצרים.

4) במדגם של 10 ישראלים שנבחנו במבחן ה-IQ נתקבלו התוצאות הבאות:  
 $n = 10, \quad \sum X_i = 1020, \quad \sum X_i^2 = 105120$

במדגם של 14 אמריקאים שנבחנו במבחן ה-IQ נתקבלו התוצאות הבאות:  
 $n = 14, \quad \sum X_i = 1386, \quad \sum X_i^2 = 138644$

נתון שציוני הבחינה מתפלגים נורמלית בכל מדינה.

- א. בדקו ברמת מובהקות של 10% האם קיים שוויון שונויות בין אוכלוסיית אמריקה לאוכלוסיית ישראל?  
 ב. בדקו האם קיים הבדל בממוצע הציונים בבחינת ה-IQ בין ישראל לארה"ב. ברמת מובהקות של 5%?

5) במטרה לבדוק האם סטודנטים הלומדים במכללות משקיעים יותר זמן ללימודים מאשר סטודנטים באוניברסיטאות נדגמו 12 סטודנטים ובדקו לכל סטודנט את הזמן שהוא משקיע ביום ללימודים. הזמנים נמדדו בדקות:

180	140	171	189	156	176	סטודנטים באוניברסיטאות
150	204	186	191	190	180	סטודנטים במכללות

- א. נסחו את ההשערות ובדקו אותן ברמת מובהקות של 5%. רשום את כלל ההכרעה ואת ההנחות הדרושות לביצוע המבחן הפרמטרי.  
 ב. חשבו את p-value.  
 ג. ישנה טענה שממוצע זמן ההשקעה בלימודים במכללות הוא 3.5 שעות ביום. בדקו את הטענה כאשר רמת המובהקות הינה 5%.

6) במדינת טרפפו המשכורות במשק מתפלגות נורמלית עם ממוצע של 1 אלף דולר וסטטיית תקן של 0.2 אלף דולר. בוצע מדגם מקרי בו השתתפו 5 נשים ו 5 גברים שומקום שבה המשכורות מתפלגות נורמלית גם כן. להלן משכורותיהם באלפי דולר:

1.1	1.2	0.7	0.9	2	גברים
1.2	1.8	1.9	1.1	1.4	נשים

- א. בדקו את הטענה שממוצע משכורותיהם של אזרחי שומקום גבוה מאשר ממוצע משכורותיהם של אזרחי טרפפו ברמת מובהקות של 5%. בהנחה שסטטיית התקן זהה בשתי המדינות.  
 ב. חזרו על הסעיף הקודם ללא ההנחה הנ"ל.  
 ג. ישנה טענה שסטטיית התקן במדינת שומקום גבוהה מזו של טרפפו. בדקו ברמת מובהקות של 5%.

- (7) בשנת 2000 ל-60% היה מדיח כלים בבית. מחקר רוצה לבדוק האם כיום פרופורציית המשפחות עם מדיח כלים עלה. הוחלט לבצע מדגם אקראי של 150 משפחות.
- רשמו את השערות המחקר.
  - מה היא מסקנת המחקר ברמת מובהקות של 5% אם במדגם ל-102 משפחות היה מדיח כלים.
  - מהי הטעות האפשרית במסקנה מהסעיף הקודם. האם ניתן לדעת את הסתברותה?

- (8) נערך מחקר על הקשר בין עישון ויתר לחץ דם. נבדק מדגם מקרי של 200 מעשנים ונמצא כי 30 סבלו מיתר לחץ דם. ידוע שבאוכלוסייה 18% סובלים מיתר לחץ דם.
- בדקו ברמת מובהקות 0.1 את ההשערה כי אחוז הסובלים מיתר לחץ דם בקרב המעשנים גדול מאשר כלל האוכלוסייה.
  - מהי רמת המובהקות המינימלית לקבלת הטענה שאחוז הסובלים מיתר לחץ דם בקרב המעשנים גדול מאשר כלל האוכלוסייה.
  - מהי עצמת המבחן, אם אחוז הסובלים מיתר לחץ דם בקרב אוכלוסיית המעשנים היא בפועל 25%.

- (9) להלן התפלגות מספר הנסיעות לחופשה השנתית במדגם של משפחות ישראליות. בדקו ברמת מובהקות של 5%:

4	3	2	1	0	מספר הנסיעות
12	20	26	102	84	מספר המשפחות

- באיטליה משפחות נוסעות בממוצע פעמיים בשנה לחופשה. האם בישראל משפחות נוסעות פחות מאשר באיטליה?
- בהולנד 80% מהמשפחות נוסעות לפחות פעם אחת בשנה לחופשה, האם בישראל אחוז המשפחות שנוסעות לפחות פעם אחת בשנה לחופשה נמוך מאשר בהולנד?

- (10) נתון כי:  $X \sim N(\mu, \sigma^2 = 10^2)$ .

מעוניינים לבדוק את ההשערות:  $H_0: \mu = 40$ ,  $H_1: \mu > 40$ .

דגמו 25 תצפיות מהאוכלוסייה והתקבל  $\bar{X} = 45$ .

- חשבו את p-value (מובהקות התוצאה).
- חזרו על סעיף א אם ההשערה האלטרנטיבית הייתה:  $H_1: \mu < 40$ .
- חזרו על סעיף א אם ההשערה האלטרנטיבית הייתה:  $H_1: \mu \neq 40$ .

- (11) ציוני בחינת הבגרות במתמטיקה מתפלגים נורמלית עם שונות 150. במדגם של 16 נבחנים מתל אביב התקבלה שונות מדגמית-190. במדגם של 25 ירושלמים התקבלה שונות מדגמית 118.
- א. בדקו ברמת מובהקות של 2.5% האם שונות הציונים במתמטיקה בקרב נבחני תל אביב גבוהה מהשונות בכלל הארץ.
- ב. בדקו ברמת מובהקות של 5% האם שונות ציונים במתמטיקה בקרב תלמידי תל אביב גבוהה מאשר בקרב תלמידי ירושלים.

### תשובות סופיות

- |                    |                    |                                    |                 |
|--------------------|--------------------|------------------------------------|-----------------|
| א. חוקר א'         | ב. 0.0122          | ג. גדלה.                           | ד. נדחה $H_0$ . |
| א. לפחות 0.0808    | ב. 0.7995          |                                    |                 |
| א. לא נדחה $H_0$ . | ב. לא נדחה $H_0$ . |                                    |                 |
| א. לא נדחה $H_0$ . | ב. לא נדחה $H_0$ . |                                    |                 |
| א. לא נדחה $H_0$ . | ב. בין 5% ל-10%.   | ג. נדחה $H_0$ .                    |                 |
| א. נדחה $H_0$ .    | ב. נדחה $H_0$ .    | ג. נדחה $H_0$ .                    |                 |
| א. $H_0 : p = 0.6$ | ב. נדחה $H_0$ .    | ג. טעות מסוג ראשון בסיכוי של 0.05. |                 |
| א. $H_1 : p > 0.6$ |                    |                                    |                 |
| א. לא נדחה $H_0$ . | ב. 0.8643          | ג. 0.8749.                         |                 |
| א. נדחה $H_0$ .    | ב. נדחה $H_0$ .    |                                    |                 |
| א. 0.0062          | ב. 0.9938          | ג. 0.0124.                         |                 |
| א. לא נדחה $H_0$ . | ב. לא נדחה $H_0$ . |                                    |                 |

### שאלות סיכום – שאלות רב ברירה על בדיקת השערות

(1) בבדיקת השערה חד-צדדית ימנית ברמת מובהקות  $\alpha = 0.01$ , נדחתה השערת האפס. מה הייתה המסקנה לו נבדקה אותה ההשערה באמצעות אותם נתונים ברמת מובהקות  $\alpha = 0.05$ ?

- השערת האפס הייתה נדחית.
- השערת האפס לא הייתה נדחית.
- ההשערה המחקרית הייתה נדחית.
- בהעדר נתונים נוספים, לא ניתן לדעת.

(2) על מנת לבדוק האם ההסתברות ללידת בן הינה חצי, נבחר מדגם מקרי של 200 ילדים, ונמצא שישנם 120 בנים. מהן ההשערות האלטרנטיביות להשערת האפס?

א.  $H_1 : p = 0.5$

ב.  $H_1 : p = 0.6$

ג.  $H_1 : p > 0.5$

ד.  $H_1 : p \neq 0.5$

(3) לצורך בדיקת השפעת היפנוזה על לימוד אנגלית, נבחרו 10 זוגות תאומים זהים. אחד התאומים למד אנגלית בהשפעת היפנוזה, והשני ללא היפנוזה. לאחר מכן נערך לשניהם מבחן באנגלית. נניח שציוני המבחן מתפלגים נורמאלית ללא ידיעת השונות האמיתית. המבחן שיש לבצע כאן הוא:

א. מבחן Z למדגם יחיד.

ב. מבחן T למדגם יחיד.

ג. מבחן T למדגמים בלתי תלויים.

ד. מבחן T למדגמים מזווגים.

(4) כדי לבדוק את הטענה שגברים רווקים שוקלים פחות מגברים נשואים לקח חוקר מדגם מקרי של 4 גברים ומדד את משקלם לפני נישואיהם ולאחר נישואיהם. הנה התוצאות:

מהן ההשערות הנבדקות? (ההפרש חושב  $X - Y$ )

68	82	93	69	לפני הנישואין - X
71	84	88	80	לאחר הנישואין - Y

א.  $H_1 : \mu_d < 0, H_0 : \mu_d = 0$

ב.  $H_1 : \mu_x - \mu_y < 0, H_0 : \mu_x - \mu_y = 0$

ג.  $H_1 : \mu_x - \mu_y < 0, H_0 : \mu_x - \mu_y = 0$

ד.  $H_1 : \mu_d > 0, H_0 : \mu_d = 0$

(5) חוקר ביצע מחקר ובו עשה טעות מסוג שני לכן :

- השערת האפס נכונה.
- השערת האפס נדחתה.
- השערת האפס לא נדחתה.
- אף אחת מהתשובות לא נכונה בהכרח.

(6) ידוע כי ילד בגיל שנתיים ישן בממוצע 9 שעות בלילה. במדגם של 20 תינוקות

בני שנתיים המתגוררים בצפון נמצא, כי ממוצע שעות השינה בלילה הינו 10 עם סטיית תקן של 1.1 במדגם של 10 תינוקות בדרום נמצא, כי ממוצע שעות השינה בלילה הינו 7.9 עם סטיית תקן של 1.1. על מנת להשוות בין ממוצע שעות השינה של ילדים מהצפון לבין זה של כלל הילדים יש לערוך \_\_\_\_\_, ועל מנת להשוות בין ממוצע שעות השינה של ילדים מהדרום לזה של ילדים המתגוררים בצפון יש לערוך \_\_\_\_\_.

יש להניח שההנחות הדרושות מתקיימות.

- מבחן Z למדגם יחיד ; מבחן T למדגם יחיד.
- מבחן T למדגם יחיד ; מבחן T למדגמים תלויים.
- מבחן T למדגם יחיד ; מבחן T למדגמים בלתי תלויים.
- מבחן T למדגמים בלתי תלויים ; מבחן T לממוצע יחיד.

(7) מובהקות התוצאה (PV) היא גם :

- רמת המובהקות המינימאלית לדחות השערת האפס.
- רמת המובהקות המקסימאלית לדחיית השערת האפס.
- רמת המובהקות שנקבעת מראש על ידי החוקר טרם קיבל את תוצאות המחקר.
- רמת המובהקות המינימאלית לאי דחיית השערת האפס.

(8) כדי לבדוק את הטענה שגברים רווקים שוקלים פחות מגברים נשואים לקח

חוקר מדגם מקרי של 4 גברים ומדד את משקלם לפני נישואיהם ולאחר

נישואיהם. הנה התוצאות :

68	82	93	69	לפני הנישואין
71	84	88	80	לאחר הנישואין

לבדיקת

באיזה התפלגות משתמשים

ההשערות, ובכמה דרגות חופש :

- ההתפלגות Z ללא דרגות חופש.
- ההתפלגות T ו-3 דרגות חופש.
- ההתפלגות T ו-6 דרגות חופש.
- ההתפלגות  $\chi^2$  ו-3 דרגות חופש.

- 9) שני סטטיסטיקאים בודקים השערות ברמת מובהקות  $\alpha = 0.05$  על סמך אותו מדגם. סטטיסטיקאי א' בודק את ההשערה:  $H_0: \mu = 20$  כנגד האלטרנטיבה  $H_1: \mu \neq 20$  ומחליט לא לדחות את השערת האפס. סטטיסטיקאי ב' בודק את ההשערה  $H_0: \mu \leq 20$  כנגד האלטרנטיבה  $H_1: \mu > 20$  מה יחליט סטטיסטיקאי ב'?
- לדחות את השערת האפס.
  - לא לדחות את השערת האפס.
  - ללא נתונים נוספים אי אפשר לדעת מה יחליט.
- 10) חוקר בדק השערה מסוימת והחליט לדחות את השערת האפס ברמת מובהקות 5%. מה נכון לומר?
- הוא בוודאות ידחה את השערת האפס ברמת מובהקות 9% ואילו ברמת מובהקות 2% יש לבדוק מחדש.
  - הוא בוודאות לא ידחה את השערת האפס ברמת מובהקות 9% ואילו ברמת מובהקות 2% יש לבדוק מחדש.
  - הוא בוודאות ידחה את השערת האפס ברמת מובהקות 9% וברמת מובהקות 2%.
  - הוא בוודאות לא ידחה את השערת האפס ברמת מובהקות 9% ואילו ברמת מובהקות 2% יש לבדוק מחדש.
- 11) רמת הכולסטרול בדמם של אנשים מתפלג נורמאלית עם תוחלת של 180 מ"ג (ל 100 סמ"ק דם). וסטיית תקן של 10 מ"ג. מעוניינים לבדוק את הטענה שצמחונים הם בעלי רמת כולסטרול נמוכה יותר. נניח שסטיית התקן אצל צמחונים זהה לסטיית התקן של כלל האנשים. במדגם של 20 צמחונים התקבל ממוצע רמת כולסטרול 174.5 מ"ג. אם הוחלט לקבל את הטענה שצמחונים הם בעלי רמת כולסטרול נמוכה יותר איזה סוג טעות אפשרית במסקנה?
- טעות מסוג ראשון.
  - טעות מסוג שני.
  - טעות מסוג שלישי.
  - לא ניתן לדעת כיוון שאנו לא יודעים מה התוחלת האמתית אצל הצמחונים.

**12** בסקר שנערך התקבל ש 60% מתוך 220 נשאלים מבקרים אצל השיננית לפחות פעם אחת בשנה. עבור אילו רמות מובהקות ניתן יהיה לקבוע שרוב האוכלוסייה מבקרת אצל השיננית לפחות פעם בשנה?

- רמת מובהקות הגדולה מ-5%.
- רמת מובהקות הקטנה מ-5%.
- רמת מובהקות הגדלה מ-0.0015.
- רמת מובהקות הקטנה מ-0.0015.

**13** שני חוקרים העוסקים בתחום מחקרי משותף החליטו להסתמך על נתונים של מדגם שפורסם על ידי הלשכה המרכזית לסטטיסטיקה.

חוקר א' ניסח השערה דו צדדית ואילו חוקר ב' ניסח השערה חד צדדית. מסקנתו של איזה מבין המשפטים הבאים הוא הנכון בנוגע למסקנות החוקרים?

- אם חוקר א' ידחה את השערת האפס לא ניתן לדעת מה יחליט חוקר ב' באותה רמת מובהקות.
- אם חוקר א' יקבל את השערת האפס גם חוקר ב' יקבל את השערת האפס באותה רמת מובהקות.
- אם חוקר ב' ידחה את השערת האפס גם חוקר א' ידחה את השערת האפס באותה רמת מובהקות.
- אם חוקר א' ידחה את השערת האפס גם חוקר ב' ידחה את השערת האפס בתנאי שרמת המובהקות כפולה בגודלה.

**14** ידוע מנתוני העבר כי תוחלת הציונים בבחינה בפסיכולוגיה היא 79. הועלתה השערה כי תוחלת הציונים בקרב העולים החדשים נמוכה יותר. לצורך בדיקת הטענה נלקח מדגם מקרי של 47 סטודנטים עולים ונמצא ממוצע של 75. מה משמעות הפרמטר בניסוח ההשערות?

- תוחלת ציוני העולים באוכלוסייה.
- ממוצע ציוני העולים במדגם.
- תוחלת ציוני האוכלוסייה מנתוני העבר.
- ממוצע ציוני שאר האוכלוסייה במדגם.

**15** חוקר ביצע מחקר וידוע כי עשה טעות מסוג 1. מה מהבאים נכון?

- החוקר דחה את השערת  $H_0$  כאשר היא הייתה נכונה.
- החוקר דחה את השערת  $H_1$  כאשר היא הייתה נכונה.
- החוקר לא דחה את השערת  $H_0$  כאשר היא הייתה לא נכונה.
- המדגם של החוקר שייך בפועל להתפלגות הדגימה של  $H_1$ .

- 16** חוקר ביקש לבחון האם תאומים זהים אשר הופרדו בילדותם שונים מתאומים זהים אשר גדלו יחדיו מבחינת מידת הפער בין התאומים בלחץ הדם. הוא דגם 20 זוגות תאומים מכל אוכלוסייה ומדד את הפרש בין לחץ הדם בכל זוג תאומים. מהו המבחן הסטטיסטי המתאים?
- מבחן T למדגמים בלתי תלויים עם 38 דרגות חופש.
  - מבחן T למדגמים מזווגים, עם 39 דרגות חופש.
  - מבחן T למדגמים בלתי תלויים עם 39 דרגות חופש.
  - מבחן T למדגמים מזווגים עם 38 דרגות חופש.

- 17** בינואר השנה פורסם שהשכר הממוצע במשק הוא 8,900 ₪. במדגם שנעשה בחודש יוני על 60 עובדים נרשם עבור כל עובד במדגם האם השכר שלו נמוך או לא נמוך מהשכר הממוצע שפורסם בחודש ינואר. מהו המבחן המתאים כדי לבדוק שרוב העובדים בחודש יוני קיבלו שכר הנמוך מהשכר הממוצע שפורסם בחודש ינואר?
- מבחן Z על פרופורציה.
  - מבחן T על תוחלת אחת.
  - מבחן T על שתי תוחלות במדגמים בלתי תלויים.
  - מבחן T על שתי תוחלות במדגמים תלויים.

- 18** שלושה חוקרים רצו לבדוק את השפעתו של שידור פרסומות נגד תאונות דרכים על מהירות הנהיגה של נהגים בישראל (השונות של מהירות הנהיגה בישראל אינה ידועה). עידו השווה את מהירות הנהיגה של קבוצת נהגים אחת, חודש לפני שידור הפרסומות וחודש לאחר שידור הפרסומות. רון השווה את מהירות הנהיגה של קבוצת נהגים, שראו את הפרסומות, למהירות הנהיגה של קבוצת נהגים, שלא ראו את הפרסומות. יואב השווה את מהירות הנהיגה של קבוצת נהגים בחודש בו שודרו הפרסומות, למהירות הנהיגה הממוצעת בישראל על פי נתוני משרד התחבורה. המבחנים בהם צריכים החוקרים להשתמש הם:
- שלושתם במבחן T למדגמים בלתי תלויים.
  - עידו במבחן T למדגמים מזווגים, ורון ויואב במבחן T למדגמים בלתי תלויים.
  - עידו במבחן T למדגמים מזווגים, רון במבחן T למדגמים בלתי תלויים ויואב במבחן T למדגם יחיד.
  - עידו במבחן T למדגמים מזווגים, רון ויואב במבחן T למדגם יחיד.

- 19** במחקר נמצא שתוצאה היא מובהקת ברמת מובהקות של 5%. מה תמיד נכון?
- הגדלת רמת המובהקות לא תשתנה את מסקנת המחקר.
  - הגדלת רמת המובהקות תשנה את מסקנת המחקר.
  - הקטנת רמת המובהקות לא תשנה את מסקנת המחקר.
  - הקטנת רמת המובהקות תשנה את מסקנת המחקר.
- 20** חוקר ערך מבחן דו צדדי ברמת מובהקות של  $\alpha$  והחליט לדחות את השערת האפס. אם החוקר היה עורך מבחן חד צדדי ברמת מובהקות של  $\frac{\alpha}{2}$  אזי בהכרח:
- השערת האפס הייתה נדחית.
  - השערת האפס הייתה לא נדחית.
  - לא ניתן לדעת מה תהיה מסקנתו במקרה זה.
- 21** ליאור ורוני העלו את אותן השערות על ממוצע האוכלוסייה. כמו כן הם התבססו על אותן תוצאות של מדגם.
- ליאור השתמש בטבלה של התפלגות Z.
- רוני השתמשה בטבלה של התפלגות T.
- מה נוכל לומר בנוגע להחלטת המחקר שלהם?
- אם ליאור ידחה את השערת האפס אז גם בהכרח רוני.
  - אם רוני תדחה את השערת האפס אז גם בהכרח ליאור.
  - שני החוקרים בהכרח יגיעו לאותה מסקנה.
  - לא ניתן לדעת על היחס בין דחיית השערת האפס של שני החוקרים.
- 22** נתון ש  $X \sim N(\mu, \sigma^2)$  כמו כן נתונות ההשערות הבאות:  $H_0: \mu = \mu_0$ ,  $H_1: \mu < \mu_0$ .
- חוקר בדק את ההשערות הללו על סמך מדגם שכלל 10 תצפיות.  $\sigma^2$  לא הייתה ידועה לחוקר. החוקר החליט לדחות את השערת האפס ברמת מובהקות של 5% לאחר מכן כדי לחזק את קביעתו הוא דגם עוד 5 תצפיות ושקלל את תוצאות אלה גם למדגם כך שכלל עכשיו 15 תצפיות.
- כעת בברור הוא ידחה את השערת האפס.
  - כעת הוא דווקא יקבל את השערת האפס.
  - כעת לא ניתן לדעת מה תהיה מסקנתו.
- 23** אם חוקר החליט להגדיל את רמת המובהקות במחקר שלו אזי:
- הסיכוי לטעות מסוג ראשון גדל.
  - העוצמה של המבחן גדלה.
  - הסיכוי לטעות מסוג שני גדל.
  - תשובות א ו-ב נכונות.

24) חוקר ביצע מחקר ובו עשה טעות מסוג שני לכן :

- השערת האפס נכונה.
- השערת האפס נדחתה.
- השערת האפס לא נדחתה.
- אף אחת מהתשובות לא נכונה בהכרח.

25) מה המצב הרצוי לחוקר המבצע בדיקת השערה :

$1 - \beta$	$\alpha$
א. גדולה	א. גדולה
ב. קטנה	ב. גדולה
ג. גדולה	ג. קטנה
ד. קטנה	ד. קטנה

26) נערך שינוי בכלל ההחלטה של בדיקת השערה מסוימת ובעקבותיו אזור דחיית  $H_0$  קטן. כל שאר הגורמים נשארו ללא שינוי. כתוצאה מכך :

- הן  $\alpha$ , והן  $(1 - \beta)$ , יקטנו.
- $\alpha$  יישאר ללא שינוי ואילו  $(1 - \beta)$  יגדל.
- $\alpha$  יגדל ואילו  $(1 - \beta)$  יקטן.
- הן  $\alpha$  והן  $(1 - \beta)$  יגדלו.

27) ידוע כי לחץ דם תקין באוכלוסייה הוא 120. רופא מניח שלחץ הדם בקרב עיתונאים גבוה יותר מהממוצע באוכלוסייה. הוא לקח מדגם של 60 עיתונאים וקיבל ממוצע 137. על סמך המדגם, הוא בודק טענתו ברמת מובהקות 0.02 ומסיק שלחץ הדם בקרב העיתונאים אינו גבוה יותר. מה הטעות האפשרית שהרופא עושה?

- טעות מסוג ראשון.
- טעות מסוג שני.
- טעות מסוג שלישי.
- אין טעות במסקנתו.

28) בבדיקת השערות התקבל שה-  $p\text{-value} = 0.02$ . מה תהיה מסקנת חוקר המשתמש ברמת מובהקות 1%? בחר בתשובה הנכונה :

- יקבל את השערת האפס בכל מקרה.
- ידחה את השערת האפס מקרה.
- ידחה את השערת האפס רק אם המבחן הנו דו צדדי.
- לא ניתן לדעת כי אין מספיק נתונים.

**(29)** מובהקות התוצאה (PV) היא גם :

- א. רמת המובהקות המינימאלית לדחות השערת האפס.
- ב. רמת המובהקות המקסימאלית לדחיית השערת האפס.
- ג. רמת המובהקות שנקבעת מראש על ידי החוקר טרם קיבל את תוצאות המחקר.
- ד. רמת המובהקות המינימאלית לאי דחיית השערת האפס.

**(30)** בבדיקת השערות מסוימת התקבל  $p \text{ value} = 0.0254$ , לכן :

- א. ברמת מובהקות של 0.01 אך לא של 0.05 נדחה את  $H_0$ .
- ב. ברמת מובהקות של 0.01 ושל 0.05 לא נדחה את  $H_0$ .
- ג. ברמת מובהקות של 0.05 אך לא של 0.01 נדחה את  $H_0$ .
- ד. ברמת מובהקות של 0.01 ושל 0.05 נדחה את  $H_0$ .

**(31)** רמת המובהקות במחקר הייתה 2% לכן.

- א. בסיכוי של 2% נדחה את השערת האפס.
- ב. בסיכוי של 2% לא נדחה את השערת האפס.
- ג. בסיכוי של 2% השערת האפס לא נכונה.
- ד. אף תשובה לא נכונה.

**(32)** נתון ש:  $X \sim N(\mu, \sigma^2)$ . כמו כן נתונות ההשערות הבאות:  $H_0: \mu = \mu_0$ ,  $H_1: \mu < \mu_0$ .

- חוקר בדק את ההשערות הללו על סמך מדגם שכלל 10 תצפיות.
- $\sigma^2$  לא הייתה ידועה לחוקר. החוקר החליט לדחות את השערת האפס ברמת מובהקות של 5%. אם הוא היה מגדיל את רמת המובהקות ל-10% אזי :
- א. כעת בברור הוא ידחה את השערת האפס.
- ב. כעת הוא דווקא יקבל את השערת האפס.
- ג. כעת לא ניתן לדעת מה תהיה מסקנתו.

**(33)** לצורך בדיקת השפעת היפנוזה על לימוד אנגלית, נבחרו 10 זוגות תאומים

- זהים. אחד התאומים למד אנגלית בהשפעת היפנוזה, והשני ללא היפנוזה.
- לאחר מכן נערך לשניהם מבחן באנגלית. נניח שציוני המבחן מתפלגים נורמאלית ללא ידיעת השונות האמתית. מספר דרגות החופש במבחן הוא :

א. 9

ב. 19

ג. 18

ד. 8

34) בתחנת טיפת חלב מסוימת יש שני מכשירי שקילה. על מנת להשוות בין שני המשקלים נדגמו 4 תינוקות. כל תינוק בן חודשיים נשקל בכל אחד מהמשקלים. להלן תוצאות השקילה (בק"ג):

משקל במכשיר 1	2.5	0.7	9.6	4.5
משקל במכשיר 2	0.5	1.7	6.9	3.5

- נניח שהמשקלים מתפלגים נורמלית.  
 המבחן שיש לבצע כאן הוא:  
 א. מבחן Z למדגם יחיד.  
 ב. מבחן T למדגם יחיד.  
 ג. מבחן T למדגמים בלתי תלויים.  
 ד. מבחן T למדגמים מזווגים.

35) כדי להשוות בין שני אצים נדגמו 5 תוצאות מריצת 100 מטר של כל אצן. זמני הריצה נרשמו ויש להניח שמתפלגים נורמלית. המטרה להשוות בין האצנים.

המבחן שיש לבצע כאן הוא:

- א. מבחן Z למדגם יחיד.  
 ב. מבחן T למדגם יחיד.  
 ג. מבחן T למדגמים בלתי תלויים.  
 ד. מבחן T למדגמים מזווגים.

36) סטטיסטיקאי ערך מבחן סטטיסטי. הוא חישב את עוצמת המבחן וקיבל 0. המשמעות של תוצאה זו היא:

- א. לעולם לא לדחות את השערת האפס כאשר היא לא נכונה.  
 ב. תמיד לדחות את השערת האפס כאשר היא נכונה.  
 ג. לעולם לא לדחות את השערת האפס כאשר היא נכונה.  
 ד. תמיד לדחות את השערת האפס כאשר היא לא נכונה.

37) סטטיסטיקאי נתבקש לאמוד את הפרש הממוצעים של שני טיפולים לפי שני מדגמים מקריים בלתי תלויים. הוא חישב רווח סמך להפרש ברמת סמך 0.98, וקיבל את הרווח  $-2 < \mu_1 - \mu_2 < 4.5$ . אילו יתבקש החוקר לבדוק לפי אותם נתונים את ההשערות:  $H_0: \mu_1 - \mu_2 = 0$ ;  $H_1: \mu_1 - \mu_2 \neq 0$ ,

ברמת מובהקות 0.05 מסקנתו תהיה:

- א. לדחות את השערת האפס.  
 ב. לא לדחות את השערת האפס.  
 ג. שלא ניתן לדעת את המסקנה עבור רמת מובהקות 0.05.  
 ד. שלא נתונות בשאלה סטיות התקן של האוכלוסיות, ולכן לא ניתן להסיק דבר.

**38** במטרה לבדוק האם קיים הבדל בין קווי זהב לבזק מבחינת ממוצע המחירים לשיחות בינ"ל. נגדמו באקראי 7 מדינות ועבור כל מדינה נבדקה עלות דקת שיחה. בהנחה והמחירים מתפלים נורמלית בנו רווח סמך למוצע ההפרשים וקיבלו:  $-0.0293 < \mu_D < 0.2145$  רווח הסמך הוא ברמת סמך של 95%.  
 לכן מסקנת המחקר היא:

- ברמת מובהקות של 5% לא נוכל לקבוע שקיים הבדל בין החברות.
- ברמת מובהקות של 5% נקבע שקיים הבדל מובהק בין החברות.
- לא ניתן לדעת מה המסקנה ברמת מובהקות של 5% כיוון שלא נאמר מה ההגדרה של  $D$ .

**39** אם רמת מובהקות של מבחן סטטיסטי הינה 0, הכוונה היא:

- תמיד נדחה  $H_0$  כאשר היא נכונה, אך לא תמיד נדחה אותה כאשר היא לא נכונה.
- לא נדחה את  $H_0$  אף פעם.
- לא נדחה את  $H_0$  כאשר היא נכונה אך יתכן ונדחה אותה כאשר היא לא נכונה.
- כל התשובות לא נכונות.

**40** חוקר ביצע ניסוי. הוא ניסח את ההשערות הבאות:  $H_0: \mu = 10$ ,  $H_1: \mu \neq 10$ . לצורך בדיקה הוא לקח מדגם מקרי בגודל 5 מתוך אוכלוסייה המתפלגת נורמאלית עם שונות לא ידועה. על סמך תוצאות המדגם הוא חישב וקיבל:  
 $t_x = -2.63$ . לכן המסקנה היא:

- הוא ידחה  $H_0$  ברמת מובהקות 0.1 אך לא כן ברמת מובהקות 0.05.
- הוא ידחה  $H_0$  ברמת מובהקות 0.05 אך לא כן ברמת מובהקות 0.025.
- הוא ידחה  $H_0$  ברמת מובהקות 0.025 אך לא כן ברמת מובהקות 0.01.
- הוא לא ידחה  $H_0$  ברמת מובהקות 0.1.

**41** האיגוד האמריקני לרפואת ילדים מפרסם הנחיות חדשות הקובעות כי יש ליטול תוספת יוד במהלך תקופת ההיריון וההנקה. מחסור במינרל זה עלול לגרום לפגיעה מוחית אצל העובר והתינוק. החלטה זו נקבעה על סמך מחקר בו השתתפו 1050 נשים שנטלו יוד במהלך תקופת ההיריון וההנקה.  
 מתוך הנשים שהשתתפו במחקר, רק ל-21 נמצאו ילדים בעלי פגיעה מוחית לעומת 3% באוכלוסייה הכללית. בנוסף, פורסם שהאיגוד האמריקאי מגיע למסקנותיו על סמך רמת מובהקות של 0.5%. מה הסיכוי לבצע טעות מסוג ראשון במחקר?

- 0.005
- 0.03
- 0.0287
- 0.05

- 42) חוקרת שיערה, כי משקלן של נשים כשנה לאחר החתונה גבוה ממשקלן בעת החתונה. החוקרת דגמה 15 נשים, ובדקה את משקלן בשתי נקודות הזמן (בעת החתונה, ושנה לאחריה), אך לא מצאה הבדל מובהק ברמת מובהקות 0.01. בהנחה, כי **במציאות** השערתה של החוקרת נכונה, סביר כי אם היא תגדיל את גודל המדגם, אזי:
- יקטן הסיכוי לטעות מסוג שני ( $\beta$ ).
  - תגדל רמת הביטחון ( $1 - \alpha$ ).
  - אף תשובה לא נכונה.
  - כל התשובות נכונות.

- 43) איזה מהמשפטים הבאים נכון תמיד?

- $POWER + \alpha + \beta = 1$
- $POWER = 0.5 - \beta$
- $POWER + \alpha = 1$
- $\beta + \alpha = 1$
- הכול לא נכון.

- 44) מה נכון לומר לגבי הנחת שיוויון השונויות במבחן T למדגמים בלתי תלויים?

- היא אומרת שהשונויות המדגמיות שוות.
- בלעדיה אין שום דרך לבדוק השערה על הפרש בין תוחלות.
- היא חשובה הן עבור מדגמים מזווגים והן עבור מדגמים בלתי תלויים.
- אף תשובה אינה נכונה.

- 45) חוקר החליט לא לדחות השערה ברמת מובהקות של  $\alpha$ . במידה וחוקר זה היה בודק השערה זו ברמת מובהקות של  $2\alpha$  על סמך אותם נתונים, האם ההשערה תדחה?

- ההשערה תדחה.
- ההשערה לא תדחה.
- התשובה תלויה בעוצמת המבחן.
- לא ניתן לדעת בוודאות אם ההשערה תדחה או לא.

- 46) חוקרת שיערה, כי בגילאי הגן בנות יותר תקשורתיות מבנים. אם החוקרת תדגום אקראית 30 בנים ו-30 בנות, ובמדגם יתקבל אותו ממוצע של ציון תקשורת. סטטיסטי המבחן יהיה:

- אפס
- חיובי
- שלילי
- לא ניתן לדעת

47) עוצמה שווה ל-1 פרושה :

- לעולם לא לדחות את השערת האפס כאשר היא נכונה.
- תמיד לדחות את השערת האפס כאשר היא נכונה.
- לעולם לא לדחות את השערת האפס כאשר היא לא נכונה.

48) מה מהבאים **נכון** לגבי מבחן T מדגמים מזווגים?

- כל התצפיות במחקר אינן תלויות זו בזו.
- כל התצפיות במחקר תלויות זו בזו.
- כל הצמדים של תצפיות במחקר אינם תלויים זה בזה.
- התצפיות בתוך כל צמד אינן תלויות זו בזו.

49) לבדיקת ההשערה החד צדדית על התוחלת של התפלגות נורמלית  $H_0: \mu \geq 10$ , נלקח מדגם והתקבלה רמת מובהקות מינימאלית לדחיית השערת האפס 0.058. לו רצינו לבדוק את ההשערה הדו צדדית  $H_0: \mu = 10$ ,  $H_1: \mu \neq 10$ , אז על סמך תוצאת אותו המדגם ברמת מובהקות 0.05:

- ניתן להכריע בין ההשערות רק אם שונות האוכלוסייה נתונה.
- מקבלים את השערת האפס.
- דוחים את השערת האפס.
- לא ניתן להכריע בין ההשערות שכן חסרים נתונים.

50) לבדיקת ההשערה החד צדדית ימנית  $H_0: \mu = 55$ ,  $H_1: \mu = 65$ ,

נלקח מדגם מקרי בגודל  $n$  מאוכלוסייה בעלת התפלגות נורמלית ושונות  $\sigma^2$ . רמת המובהקות היא 5%. נמצא שהעוצמה היא 0.9. להלן 3 טענות:

- עבור מדגם בגודל  $n$  וברמת מובהקות 5% לבדיקת ההשערות:  $H_0: \mu = 55$ ,  $H_1: \mu = 60$  העוצמה תהיה גדולה מ-0.9.
- עבור מדגם בגודל  $2n$  ורמת מובהקות 5% לבדיקת ההשערות:  $H_0: \mu = 55$ ,  $H_1: \mu = 65$  העוצמה תהיה גדולה מ-0.9.
- עבור מדגם בגודל  $n$  ורמת מובהקות 10% לבדיקת ההשערות:  $H_0: \mu = 55$ ,  $H_1: \mu = 65$  העוצמה תהיה קטנה מ-0.9.

- שלושת הטענות אינן נכונות.
- טענות 2 ו-3 אינן נכונות וטענה 1 נכונה.
- טענות 1 ו-2 נכונות וטענה 3 אינה נכונה.
- טענות 1 ו-3 אינן נכונות וטענה 2 נכונה.

## תשובות סופיות:

שאלה	תשובה	שאלה	תשובה
1	א	26	א
2	ד	27	ב
3	ד	28	א
4	א	29	א
5	ג	30	ג
6	ג	31	ד
7	א	32	א
8	ב	33	א
9	ג	34	ד
10	א	35	ג
11	א	36	א
12	ג	37	ג
13	א	38	א
14	א	39	ג
15	א	40	א
16	א	41	א
17	א	42	א
18	ג	43	ה
19	א	44	ד
20	ג	45	ד
21	ב	46	א
22	ג	47	ד
23	ד	48	ג
24	ג	49	ב
25	ג	50	ד