

מבוא למתמטיקה לכלכלנים



$$\{\sqrt{x}\}^2$$



תוכן העניינים

1	משוואות אלגבריות
23	אי שוויונים אלגבריים
39	חוקי החזקות והשורשים
49	משוואות ואי-שוויונים מעריכיים
59	חוקי הלוגריתמים, משוואות ואי-שוויונים לוגריתמים
75	הפונקציה הממשית ומבוא לתורת הקבוצות
101	גבול של פונקציה
112	הגדרת הנגזרת - גזירות של פונקציה - נגזרות חד-צדדיות
118	חישוב נגזרת של פונקציה
131	רציפות של פונקציה - משפט ערך הביניים
141	בעיות מקסימום ומינימום (בעיות קיצון)
154	חקירת פונקציה
171	חקירת פונקציה ("שאלות מסביב")
175	כלל לופיטל
181	מינימום ומקסימום מוחלטים לפונקציה
184	משיק, נורמל, נוסחת הקירוב הליניארי
193	אינטגרלים בשיטת אינטגרציה בחלקים
195	אינטגרלים בשיטת ההצבה
197	אינטגרלים מיידיים ואינטגרלים בשיטת "הנגזרת כבר בפנים"
203	אינטגרלים של פונקציות רציונליות
207	שימושי האינטגרל המסויים (שטח-אורך קשת)
218	פונקציות של שני משתנים
228	נגזרות חלקיות

תוכן העניינים

234	24. קיצון ואוכף לפונקציה של שני משתנים
236	25. קיצון של פונקציה של שני משתנים תחת אילוץ (כופלי לגראנז')
239	26. דטרמיננטות
244	27. מטריצות
250	28. פתרון וחקירת מערכת משוואות ליניאריות

מבוא למתמטיקה לכלכלנים

פרק 1 - משוואות אלגבריות

תוכן העניינים

1. משוואות ממעלה ראשונה 1
2. מערכת שתי משוואות בשני נעלמים ממעלה ראשונה 3
3. משוואות עם אינסוף פתרונות וללא פתרון 6
4. משוואה ממעלה שנייה 7
5. משוואות דו-ריבועיות 9
6. משוואות עם פרמטרים 11
7. משוואות עם שורשים 13
8. משוואות עם ערך מוחלט 15
9. מערכת משוואות ממעלה שנייה 16
10. משוואות מתקדמות מסכמות 18
11. פישוט ביטויים ומשוואות ממעלה שלישית 21

משוואה ממעלה ראשונה:

סיכום כללי:

משוואה ממעלה ראשונה היא מהצורה: $ax=b$ (כלומר, החזקה של הנעלם היא 1).

פתרון של משוואה ממעלה ראשונה הוא $x = \frac{b}{a}$ כאשר $a \neq 0$.

שלבי הפתרון הם:

1. ביצוע מכנה משותף (במידה וצריך).
2. פתיחת סוגריים אם ישנם.
3. העברת אגפים וכינוס אברים דומים (בידוד הנעלם באגף אחד והמספרים באגף שני).
4. בידוד הנעלם ומציאתו ע"י חילוק במקדם שלו.

שאלות:

(1) פתור את המשוואות הבאות (משוואות יסודיות ממעלה ראשונה):

- | | |
|---------------------|-------------------------|
| א. $6x+2=8$ | ב. $7-2x=7$ |
| ג. $2x+x=24$ | ד. $2x+6=8+x$ |
| ה. $-7x+5+2x=4x-13$ | ו. $6x-3+5-7x=x-5x-7$ |
| ז. $2-5x+7=-3x+8$ | ח. $x-2+5x=4-3x-5+7x+7$ |

(2) פתור את המשוואות הבאות (משוואות עם פתיחת סוגריים):

- | | |
|----------------------|---------------------------|
| א. $3(x-1)-4=2$ | ב. $7x-4(3-4x)=-x$ |
| ג. $6(4-x)-(6-x)=3x$ | ד. $5x-(3x-7)4=21$ |
| ה. $x(x-5)=x^2-7x+8$ | ו. $(7-x)(1-x)-(x-3)^2=0$ |

3 פתור את המשוואות הבאות (משוואות עם מכנה מספרי):

$$\begin{array}{ll} \text{א. } \frac{x}{3} - \frac{x}{9} = -4 & \text{ב. } \frac{4x}{15} - \frac{3x}{10} = 1 \\ \text{ג. } \frac{2}{3}x + \frac{4}{5}x = x - \frac{7}{15} & \text{ד. } \frac{5x+1}{6} - \frac{6x-1}{5} = \frac{3x+1}{4} - 1 \\ \text{ה. } \frac{2}{5}(x-3) - \frac{3}{15}(4-x) = x+2 & \text{ו. } 5\left(\frac{x}{3} - \frac{x}{7}\right) - x = 1 \end{array}$$

4 פתור את המשוואות הבאות (משוואות עם נעלם במכנה):

$$\begin{array}{ll} \text{א. } \frac{1}{4} - \frac{2}{x} = 0 & \text{ב. } \frac{1}{2} - \frac{x}{x-1} = 0 \\ \text{ג. } \frac{3}{x} = \frac{1}{x+2} & \text{ד. } \frac{5}{2x-1} = \frac{4}{3x+2} \\ \text{ה. } \frac{x+5}{3x^2} - \frac{1}{6x} = \frac{1}{x} & \text{ו. } \frac{1}{4x} + \frac{3}{x} = \frac{13}{2} \end{array}$$

5 פתור את המשוואות הבאות (משוואות עם מכנה משותף ע"י פירוק לגורמים):

$$\begin{array}{ll} \text{א. } \frac{x^2+2}{3x^2+5x} = \frac{3x-1}{9x+15} & \text{ב. } \frac{7}{x^2-1} + \frac{2}{x+1} + \frac{3}{2-2x} = 0 \\ \text{ג. } \frac{3}{(2-x)^2} + \frac{5}{12-3x^2} = 0 & \text{ד. } \frac{4x^2-24x+36}{x-3} = 12 \end{array}$$

תשובות סופיות:

- (1) א. $x=1$ ב. $x=0$ ג. $x=8$ ד. $x=2$ ה. $x=2$ ו. $x=-3$
- ז. $x=\frac{1}{2}$ ח. $x=4$
- (2) א. $x=3$ ב. $x=\frac{1}{2}$ ג. $x=2\frac{1}{4}$ ד. $x=1$ ה. $x=4$ ו. $x=-1$
- (3) א. $x=-18$ ב. $x=-30$ ג. $x=-1$ ד. $x=1$ ה. $x=-10$ ו. $x=-21$
- (4) א. $x=8$ ב. $x=-1$ ג. $x=-3$ ד. $x=-2$ ה. $x=2$ ו. $x=\frac{1}{2}$
- (5) א. $x=-6$ ב. $x=-7$ ג. $x=-7$ ד. $x=6, x \neq 3$

מערכת שתי משוואות בשני נעלמים ממעלה ראשונה:

סיכום כללי:

הגדרה:

מערכת שתי משוואות בשני נעלמים ממעלה ראשונה (ליניאריות) היא מהצורה הבאה:

$$\begin{cases} a_1x + b_1y = c_1 \\ a_2x + b_2y = c_2 \end{cases}$$

כאשר a_1, b_1, c_1 ו- a_2, b_2, c_2 הם מקדמים מספריים.

$$\cdot \begin{cases} y = 3x - 1 \\ \frac{x + 3}{2} = y + 6 \end{cases}, \begin{cases} x + y = 3 \\ 2x - y = 1 \end{cases} : \text{דוגמאות למערכות של משוואות}$$

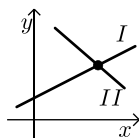
פתרון של מערכת משוואות:

פתרון של מערכת המשוואות הוא זוג סדור המקיים את כל המשוואות שבמערכת.

הצגה גרפית של מערכת משוואות:

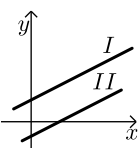
פתרון גרפי של מערכת משוואות הוא נקודת החיתוך של הישרים המייצגים כל משוואה.

יתכנו שלושה מצבים הדדיים בין שני ישרים:



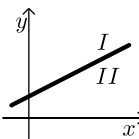
- הישרים נחתכים:

במקרה זה נקודת החיתוך תהיה פתרון המערכת.



- הישרים מקבילים:

במקרה זה לא יהיה פתרון למערכת.



- הישרים מתלכדים:

במקרה זה יהיו אינסוף פתרונות למערכת המשוואות.

פתרון אלגברי של מערכת משוואות:

- פתרון ע"י שיטת ההצבה :
 נבודד את אחד הנעלמים ממשוואה אחת ונציב אותו במשוואה השנייה.
 נבחר בשיטה זו במקרים בהם קל לבודד נעלם באחת המשוואות.
 - פתרון ע"י השוואת מקדמים :
1. כופלים (או מחלקים) משוואה אחת (או שתיהן) במספר השונה מאפס כך שתתקבלנה משוואות שקולות בעלות מקדמים נגדיים או זהים עבור אחד המשתנים.
 2. מחברים (או מחסרים) את המשוואות ומקבלים משוואה חדשה עם נעלם אחד.
 3. מוצאים את ערך הנעלם מהמשוואה החדשה ומציבים אותו באחת המשוואות המקוריות למציאת ערך הנעלם השני.

הערה:

נוח להשתמש בשיטת השוואת המקדמים ע"י כך שמעבירים את המערכת הנתונה למערכת שקולה שבה המשתנים באגף אחד והמספר החופשי באגף השני.

שאלות:

1) פתור את המשוואות הבאות :

$\begin{cases} -3x + 2y = -16 \\ x = 5y + 14 \end{cases} \text{ ג.}$	$\begin{cases} y = x - 3 \\ y = 2x + 4 \end{cases} \text{ ב.}$	$\begin{cases} 3x + y = 11 \\ y = 5 \end{cases} \text{ א.}$
$\begin{cases} 2x + 3y = 5 \\ 5x + 7y = 11 \end{cases} \text{ ו.}$	$\begin{cases} -5x + 7y = -26 \\ x + 3y = -8 \end{cases} \text{ ה.}$	$\begin{cases} 5x - 2y = -2 \\ x + 4y = 4 \end{cases} \text{ ד.}$

2) פתור את המשוואות הבאות :

$\begin{cases} 5x + 2y = 14 \\ 5x + 3y = 23 \end{cases} \text{ ב.}$	$\begin{cases} x + 3y = 5 \\ x - 3y = 3 \end{cases} \text{ א.}$
$\begin{cases} 4x = 3y - 29 \\ 5y = 9 - 13x \end{cases} \text{ ד.}$	$\begin{cases} 5y = 2x \\ 4x = 5y + 8 \end{cases} \text{ ג.}$

3) פתור את המשוואות הבאות :

$\begin{cases} 2(x - y) + 4y = 1 + x \\ 2 - 7y + x = 3(x - y) \end{cases} \text{ ב.}$	$\begin{cases} x + 2y = 1 \\ 4x + 8y = 5 \end{cases} \text{ א.}$
---	--

4 פתור את המשוואות הבאות :

$$\begin{cases} \frac{x-3}{8} - \frac{x+y}{16} = \frac{y-1}{4} & \text{ב.} \\ 3(2x-y) - 4x - 11 = 0 \end{cases}$$

$$\begin{cases} 3y - x + 2 = 4x + 2 - 3y & \text{א.} \\ 2x - 3 - y = 5y - 4x + 3 \end{cases}$$

$$\begin{cases} \frac{3x-1}{4} - \frac{2}{5}(x-y) = \frac{3}{10}(x+3) & \text{ג.} \\ \frac{x+1}{4} - \frac{y}{2} = 1 \end{cases}$$

5 פתור את המשוואות הבאות :

$$\begin{cases} 4x - \frac{7}{y} = -3 & \text{ג.} \\ 5x + \frac{2}{y} = 7 \end{cases}$$

$$\begin{cases} \frac{3}{x} + \frac{3}{y} = 2 & \text{ב.} \\ \frac{9}{x} - \frac{4}{y} = -7 \end{cases}$$

$$\begin{cases} \frac{3}{x} + \frac{1}{y} = 4 & \text{א.} \\ \frac{5}{x} - \frac{1}{y} = 4 \end{cases}$$

6 פתור את המשוואות הבאות :

$$\begin{cases} xy = 20 & \text{ב.} \\ y(3x-4) = 20 \end{cases}$$

$$\begin{cases} x(y+2) + y = xy - 5 & \text{א.} \\ x - y = 2 \end{cases}$$

$$\begin{cases} 5x - 4xy = 22 & \text{ג.} \\ 6x + xy = -20 \end{cases}$$

תשובות סופיות:

1 א. (2,5) ב. (-7,-10) ג. (4,-2) ד. (0,1) ה. (1,-3) ו. (-2,3)

2 א. $(4, \frac{1}{3})$ ב. $(-\frac{4}{5}, 9)$ ג. (4,1.6) ד. (-2,7)

3 א. אין פתרון. ב. אינסוף פתרונות.

4 א. (6,5) ב. (7,1) ג. (7,2)

5 א. (1,1) ב. (-3,1) ג. (1,1)

6 א. (-1,-3) ב. (2,10) ג. (-2,4)

משוואות עם אינסוף פתרונות וללא פתרון:

סיכום כללי:

משוואה ממעלה ראשונה:

למשוואה ממעלה ראשונה מהצורה: $ax = b$ יתכן פתרון יחיד אם ורק אם $a \neq 0$ מכיוון שניתן לחלק ולכתוב: $x = \frac{b}{a}$.

כאשר $a = 0$ מתקבלת המשוואה $0 \cdot x = b$ ויתכנו שני מצבים:

1. אם $b = 0$ את המשוואה היא $0x = 0$ ויש אינסוף פתרונות המקיימים אותה.
2. אם $b \neq 0$ את המשוואה היא $0x = b \neq 0$ ואין אף ערך של x המקיים אותה.

שאלות:

פתור את המשוואות הבאות:

$$x + 4 = 6 + x \quad (1) \qquad 3x + 6 - x = 4 + 2x + 2 \quad (2)$$

$$6(x - 2) = 2x + 5 + 4x \quad (3) \qquad 5x - 3 + x = 4x + 2x - 3 \quad (4)$$

$$(5) \quad \text{נתונה המשוואה: } 3 - 2(x + 2) = 5x + \square$$

- א. איזה מספר יש להציב ב- \square על מנת שפתרון המשוואה יהיה 1?
- ב. איזה מספר יש להציב ב- \square על מנת שפתרון המשוואה יהיה 0?
- ג. מצא ביטוי אלגברי שיש להציב ב- \square על מנת שלמשוואה יהיו אינסוף פתרונות.
- ד. מצא ביטוי אלגברי שיש להציב ב- \square על מנת שלמשוואה לא יהיה פתרון.

תשובות סופיות:

- (1) אף פתרון.
- (2) אינסוף פתרונות.
- (3) אין פתרון.
- (4) אינסוף פתרונות.
- (5) א. -8 ב. -1 ג. $-7x - 1$ ד. $-7x + k$ כאשר k הוא מספר כלשהו השונה מ-1.

משוואה ממעלה שנייה:

סיכום כללי:

משוואה מהצורה: $ax^2 + bx + c = 0$ ($a \neq 0$), נקראת משוואה ריבועית. פתרונות המשוואה יסומנו ב- x_1 ו- x_2 ויחושבו לפי נוסחת השורשים:

$$x_{1,2} = \frac{-b \pm \sqrt{b^2 - 4ac}}{2a}$$

למשוואה ריבועית יתכנו שלושה סוגים של פתרונות:

- משוואה עם שני פתרונות ממשיים שונים.**
 אם מתקבל מספר חיובי בתוך השורש שבנוסחת השורשים אזי למשוואה יהיו שני פתרונות ממשיים שונים.
 דוגמא: $x^2 + 5x - 4 = 0$.
- משוואה עם פתרון ממשי אחד בלבד.**
 אם מתקבל אפס בתוך השורש שבנוסחת השורשים אזי למשוואה יהיה פתרון ממשי אחד בלבד.
 דוגמא: $x^2 + 4x + 4 = 0$.
- משוואה ללא פתרונות ממשיים כלל.**
 אם מתקבל מספר שלילי בתוך השורש שבנוסחת השורשים אזי למשוואה לא יהיו פתרונות ממשיים כלל.
 דוגמא: $x^2 + x + 4 = 0$.

שאלות:

(1) פתור את המשוואות הבאות:

ב. $-x^2 + 10x - 16 = 0$

ד. $2x^2 - 6x + 5 = 0$

א. $x^2 + 3x - 10 = 0$

ג. $25x^2 - 20x + 4 = 0$

(2) פתור את המשוואות הבאות:

ב. $-x(x-5) = (1-3x)(1-x) + 4$

ד. $(2x-1)^2 + x(2x+3) = (x-1)(x-7)$

א. $4x^2 - 5x + 7 = 4 - x^2 + 13$

ג. $2(x-5)^2 - (2x-3)^2 = 10x + 21$

(3) פתור את המשוואות הבאות (משוואה חסרת b):

$$\begin{array}{ll} \text{א.} & x^2 - 36 = 0 \\ \text{ב.} & 32x^2 - 18 = 0 \\ \text{ג.} & 4x - x(x+2) = 3(x-1) - x - 6 \\ \text{ד.} & (2x-1)^2 + (2x+1)^2 = 10 \end{array}$$

(4) פתור את המשוואות הבאות (משוואה חסרת c):

$$\begin{array}{ll} \text{א.} & -7x^2 - 14x = 0 \\ \text{ב.} & 5x^2 - x = 0 \\ \text{ג.} & 6x(x-2) - 1 = 4x - 3(x+1) + 2 \\ \text{ד.} & (5x-2)^2 = (x-2)(x+3) + 10 \end{array}$$

(5) פתור את המשוואות הבאות:

$$\begin{array}{ll} \text{א.} & \frac{4x+1}{3} - \frac{x+2}{2} = \frac{2}{x} \\ \text{ב.} & \frac{x^2-9}{x+3} + x = x^2 - 18 \\ \text{ג.} & \frac{3}{2x+2} - \frac{2x-5}{2(x-1)^2} - \frac{4}{1-x^2} = 0 \\ \text{ד.} & \frac{x}{2x^2-72} + \frac{2}{x^2+12x+36} = \frac{8x-15}{24-4x} + 2 \end{array}$$

תשובות סופיות:

$$\begin{array}{ll} \text{(1)} & \text{א. } x_1 = 2, x_2 = -5 \quad \text{ב. } x_1 = 2, x_2 = 8 \\ & \text{ג. } x = \frac{2}{5} \quad \text{ד. אין פתרון.} \\ \text{(2)} & \text{א. } x_1 = 2, x_2 = -1 \quad \text{ב. } x_1 = 1, x_2 = 1\frac{1}{4} \\ & \text{ג. } x_1 = 1, x_2 = -10 \quad \text{ד. } x_1 = 0.6, x_2 = -2 \\ \text{(3)} & \text{א. } x = \pm 6 \quad \text{ב. } x = \pm \frac{3}{4} \\ & \text{ג. } x = \pm 3 \quad \text{ד. } x = \pm 1 \\ \text{(4)} & \text{א. } x_1 = 0, x_2 = -2 \quad \text{ב. } x_1 = 0, x_2 = \frac{1}{5} \\ & \text{ג. } x_1 = 0, x_2 = 2\frac{1}{6} \quad \text{ד. } x_1 = 0, x_2 = \frac{7}{8} \\ \text{(5)} & \text{א. } x_1 = 2, x_2 = -1.2 \quad \text{ב. } x = 5, x \neq -3 \\ & \text{ג. } x_1 = 0, x_2 = -5 \quad \text{ד. } x_1 = -7.6, x_2 = -4\frac{2}{7} \end{array}$$

משוואות דו-ריבועיות:

סיכום כללי:

משוואה דו-ריבועית היא משוואה מהצורה: $ax^4 + bx^2 + c = 0$ כאשר הנעלם הוא x .
 פתרון המשוואה יבוצע ע"י מעבר לפרמטר: $x^2 = t \rightarrow at^2 + bt + c = 0$ ומציאתו.
 לאחר מכן יש להחזיר את ההצבה ולמצוא את ערכי x .

ניתן להביא משוואות לצורה זו ולהגדיר ביטוי המופיע בחזקות 2 ו-4 כגון:
 $t = x^2 - 1$: באמצעות פרמטר: $(x^2 - 1)^2 + 3(x^2 - 1) - 2 = 0$
 ובכך לפתור משוואה: $t^2 + 3t - 2 = 0$ ולהחזיר את ההצבה עבור מציאת x .
 דרך הפתרון תקפה לכל משוואה בה הנעלם מופיע בחזקות כפולות כגון 3 ו-6, או 4 ו-8.

שאלות:

פתור את המשוואות הבאות:

- | | |
|--|---|
| $x^4 - 3x^2 + 2 = 0$ (2) | $5x^4 + 3x^2 - 8 = 0$ (1) |
| $x^2(x^2 + 1) = 10(3x^2 - 10)$ (4) | $13x^2(3x^2 - 1) - 2 = 3(x^2 - 1)(x^2 + 1)$ (3) |
| $x^3 + 4 = \frac{32}{x^3}$ (6) | $x^6 + x^3 = 56$ (5) |
| $x^8 - 4x^4 - 50 = 31x^4 - 84$ (8) | $x - 9\sqrt{x} + 14 = 0$ (7) |
| $(2x^2 - x)^2 - 4(2x^2 - x) + 3 = 0$ (10) | $125x^6 - 1 = 124(x^6 + x^3 + 1)$ (9) |
| $\frac{21}{x^2 - 4x + 10} = 6 + x^2 - 4x$ (12) | $(x^2 + 2x)^2 + 7x^2 + 14x = -6$ (11) |
| $\frac{x^2 + 2x + 2}{x^2 + 2x + 3} = \frac{7}{6} - \frac{x^2 + 2x + 1}{x^2 + 2x + 2}$ (14) | $\frac{12}{x^2 + 2x - 8} = 1 + \frac{7.5}{x^2 + 2x - 3}$ (13) |
| $\frac{x^2 - 1}{4x^2 - 28} + 2 = \frac{9}{x^4 - 8x^2 + 7} + \frac{x^2}{2x^2 - 2}$ (16) | $\frac{3}{3x^2 - 15} + \frac{1}{x^2 + 5} = \frac{10}{x^4 - 25}$ (15) |
| $\frac{3x^4}{(x+2)^2} + \frac{3x^2}{x+2} = 6$ (18) | $\left(2x + \frac{3}{x}\right)^2 + 35 = 12\left(2x + \frac{3}{x}\right)$ (17) |
| $(x^2 - 5x + 6)(x^2 - 5x - 8) = -24$ (20) | $(2x - x^2 + 3)(2x - x^2 - 2) = 0$ (19) |

תשובות סופיות:

$$x = \pm 1 \quad (1)$$

$$x = \pm 1, \pm \sqrt{2} \quad (2)$$

$$x = \pm \frac{1}{2}, \pm \frac{1}{3} \quad (3)$$

$$x = \pm 2, \pm 5 \quad (4)$$

$$x_1 = \sqrt[3]{7}, x_2 = -2 \quad (5)$$

$$x = -2, \sqrt[3]{4} \quad (6)$$

$$x_1 = 4, x_2 = 49 \quad (7)$$

$$x_{1,2} = \pm \sqrt[4]{34}, x_{3,4} = \pm 1 \quad (8)$$

$$x = 5, -1 \quad (9)$$

$$x_1 = 1.5, x_2 = -1, x_3 = 1, x_4 = -\frac{1}{2} \quad (10)$$

$$x = -1 \quad (11)$$

$$x_{1,2} = 1, 3 \quad (12)$$

$$x_1 = 0, x_2 = -2, x_3 = 3.06, x_4 = -5.06 \quad (13)$$

$$x_1 = 0, x_2 = -2 \quad (14)$$

(15) אין פתרונות.

$$x = \pm \sqrt{\frac{3}{7}} \quad (16)$$

$$x = \frac{1}{2}, 1, \frac{3}{2}, 3 \quad (17)$$

$$x = -1, 2 \quad (18)$$

$$x = 3, -1 \quad (19)$$

$$x = \pm 1, 4, 6 \quad (20)$$

משוואות עם פרמטרים:

סיכום כללי:

משוואה עם פרמטר הינה משוואה שמכילה שני סוגים של גדלים – משתנים ופרמטרים. את המשתנים מקובל לסמן באותיות x , y , z ואת הפרמטרים מסמנים בשאר האותיות. פתרון המשוואה יתקבל ע"י בידוד המשתנה כך שיבוטא באמצעות הפרמטרים שבמשוואה.

למשל פתרון המשוואה: $mx=4$ (כאשר x הוא הנעלם ו- m הוא פרמטר) הוא $x = \frac{4}{m}$

אשר מבוטא באמצעות הפרמטר m .

בכתיבת פתרון של משוואה עם פרמטרים יש לציין את תחום ההגדרה של הפרמטר עבורו הפתרון הוא בעל משמעות. בדוגמא הנ"ל תחום ההגדרה הוא $m \neq 0$.

שאלות:

(1) פתור את המשוואות הבאות:

$$\text{א. } 3x - b = (b + 1)x - 6 \quad \text{ב. } \frac{1}{3}(a - 3x) = \frac{1}{a}(ax - 3)$$

$$\text{ג. } (x - 2a)(x - 2b) = x^2 - 2(a^2 + b^2) \quad \text{ד. } \frac{m+1}{x-1} = \frac{m-1}{x+1}$$

$$\text{ה. } \frac{x}{a^2 - a} - \frac{1}{2a} = \frac{ax + x}{2a^3 - 4a^2 + 2a} - \frac{2}{a^3 - 2a^2 + a}$$

(2) פתור את מערכות המשוואות הבאות:

$$\text{א. } \begin{cases} x + my = 1 \\ x + y = m \end{cases} \quad \text{ב. } \begin{cases} ax + y = 2 \\ x + ay = 4 \end{cases}$$

$$\text{ג. } \begin{cases} \frac{x}{m} + y = m \\ x - m^2 y = 1 \end{cases} \quad \text{ד. } \begin{cases} (m-1)x - (2m+3)y = 5 \\ (m+2)x - (2m-1)y = 10m \end{cases}$$

$$\text{ה. } \begin{cases} (2a+b)x - (2a-b)y = 8ab \\ (2a-b)x + (2a+b)y = 8a^2 - 2b^2 \end{cases}$$

(3) פתור את המשוואות הריבועיות הבאות:

$$\text{א. } x^2 - 2mx + m^2 - 1 = 0 \quad \text{ב. } x^2 - 2x + 4a = a^2 + 3$$

$$\text{ג. } x^2 + m(x+10) = 2m^2 - 5x \quad \text{ד. } \frac{1}{a-x} + \frac{1}{a} + \frac{1}{a+x} = 0$$

$$\text{ה. } (m^2 + 1)x^2 - m^2x - 1 = 0 \quad \text{ו. } \frac{a}{x} + \frac{1}{b} = \frac{x}{a} + b$$

$$\text{ז. } x + \frac{1}{x} = \frac{a-b}{a+b} + \frac{a+b}{a-b}$$

תשובות סופיות:

$$\text{(1) א. } x = \frac{b-6}{2-b}, b \neq 2 \quad \text{ב. } x = \frac{a^2+9}{6a}, a \neq 0 \quad \text{ג. } x = a+b \quad \text{ד. } x = -m \quad \text{ה. } x = a+1$$

$$\text{(2) א. } m \neq 1, (m+1, -1) \quad \text{ב. } a \neq \pm 1, \left(\frac{2a-4}{a^2-1}, \frac{4a-2}{a^2-1} \right)$$

$$\text{ג. } m \neq 0-1, \left(m^2 - m + 1, \frac{m-1}{m} \right) \quad \text{ד. } m \neq 1, -2, (2m+1, m-2)$$

$$\text{ה. } b \neq \pm 2a, (2a+b, 2a-b)$$

$$\text{(3) א. } x = m+1, m-1 \quad \text{ב. } x = a-1, 3-a \quad \text{ג. } x = m-5, -2m$$

$$\text{ד. } a \neq 0, x \neq \pm a, x = \pm a\sqrt{3} \quad \text{ה. } x = 1, -\frac{1}{m^2+1}$$

$$\text{ו. } a, b \neq 0, x = \frac{a}{b}, -ab \quad \text{ז. } a \neq \pm b, x = \frac{a+b}{a-b}, \frac{a-b}{a+b}$$

משוואות עם שורשים:

סיכום כללי:

פתרון משוואה מהצורה $\sqrt{x} = a$ יתקבל ע"י העלאה בריבוע של שני אגפי המשוואה באופן הבא: $x = a^2 \rightarrow (\sqrt{x})^2 = (a)^2$.

הערות:

- (1) יש לזכור בעת העלאה בריבוע של שני אגפי המשוואה יש לבדוק את כל הפתרונות המתקבלים ע"י הצבתם במשוואה המקורית.
- (2) למשוואה מהצורה $\sqrt{x} = a$ שבה $a < 0$ אין פתרון.
- (3) יש לסדר תחילה משוואות שבהן הביטוי עם שורש אינו מבודד.
- (4) במשוואות שבהן יותר מביטוי אחד עם שורש יש לבודד תחילה את אחד הביטויים, להעלות בריבוע ולאחר מכן לחזור על התהליך ולבצע העלאה בריבוע פעם נוספת.

שאלות:

פתור את המשוואות הבאות:

- | | |
|--|---|
| $\sqrt{x+2} = x$ (2) | $\sqrt{2x+5} = 7$ (1) |
| $\sqrt{2x+7} + 4 = x$ (4) | $\sqrt{3x+1} + x = 13$ (3) |
| $\sqrt{10x+6} + 9 = x$ (6) | $\sqrt{x-1} + 3 = x$ (5) |
| $\sqrt{24-x} + 3 = 2x$ (8) | $\sqrt{x+6} - 2 = 2x$ (7) |
| $2x = 16 - 3\sqrt{x-1}$ (10) | $\sqrt{x+16} + 4 = 2x$ (9) |
| $\sqrt{x^2 - 5x + 12} = 2\sqrt{6-x}$ (12) | $\sqrt{3x+5} = \sqrt{x+17}$ (11) |
| $\sqrt{2x-1} + 3 = \sqrt{7x+1}$ (14) | $\sqrt{x-1} \cdot \sqrt{2x-5} = \sqrt{11-x^2}$ (13) |
| $\sqrt{2x-3} + \sqrt{3-x} = 2$ (16) | $\sqrt{9x-8} - 3\sqrt{x+4} = -2$ (15) |
| $\sqrt{2x-2} + \sqrt{5x-4} = \sqrt{3x-2}$ (18) | $\sqrt{x+3} + \sqrt{x-2} = \sqrt{4x+1}$ (17) |
| | $3\sqrt{x-1} + \sqrt{2x-3} = 2\sqrt{x+2}$ (19) |

תשובות סופיות:

- | | |
|---------------------------|---------------|
| $x = 2$ (2 | $x = 22$ (1 |
| $x = 9$ (4 | $x = 8$ (3 |
| $x = 25$ (6 | $x = 5$ (5 |
| $x = 3.75$ (8 | $x = 0.25$ (7 |
| $x = 5$ (10 | $x = 4.25$ (9 |
| $x = 4, -3$ (12 | $x = 6$ (11 |
| $x = 5$ (14 | $x = 3$ (13 |
| $x = 2, 2\frac{8}{9}$ (16 | $x = 12$ (15 |
| $x = 1$ (18 | $x = 6$ (17 |
| | $x = 2$ (19 |

משוואות עם ערך מוחלט:

סיכום כללי:

הגדרה:

ערך מוחלט הינו המרחק של מספר מ-0 ומוגדר באופן הבא: $|x| = \begin{cases} x & x \geq 0 \\ -x & x < 0 \end{cases}$.

משוואה עם ערך מוחלט:

משוואה עם ערך מוחלט היא מהצורה: $|x| = a$.

כדי לפתור משוואה עם ערכים מוחלטים יש למצוא את נקודות האפס של כל ערך מוחלט (קרי: הנקודות בהן הביטוי שבתוך הערך המוחלט מתאפס) ולפצל את המשוואה הנתונה לתחומים עבור כל תחום.

שאלות:

פתור את המשוואות הבאות:

$$|3x+14|=7 \quad (1) \qquad |3x-24|=x \quad (2)$$

$$|12-x|=3x \quad (3) \qquad 2x-|8-x|=10 \quad (4)$$

$$|4x-5|=|2x+13| \quad (5) \qquad |14-3x|=2|x+5| \quad (6)$$

$$|x|+7=|2x| \quad (7) \qquad |x+2|+6=|2x-4| \quad (8)$$

$$|x+2|+|2x-6|=|4x+8| \quad (9) \qquad |10-3x|-|x+4|=|2x-6| \quad (10)$$

תשובות סופיות:

$$\begin{array}{llll}
 x = -\frac{7}{3}, -7 & (1) & x = 6, 12 & (2) \\
 x = 9, -1\frac{1}{3} & (5) & x = 24, \frac{4}{5} & (6) \\
 x = 0, -12 & (9) & x = 0 & (10) \\
 x = 6 & (4) & x = 3 & (3) \\
 x = 12, -1\frac{1}{3} & (8) & x = \pm 7 & (7)
 \end{array}$$

מערכת משוואות ממעלה שנייה:

סיכום כללי:

מערכת משוואות ריבועיות מיוחסת למערכת של שתי משוואות (לפחות) שאחת מהן מכילה את אחד מהנעלמים בריבוע. למערכת משוואות ריבועיות יכולים להתקבל עד 4 פתרונות שונים. יש לפתור את המערכת לפי הטכניקות הרגילות של בידוד והצבה או השוואת מקדמים.

שאלות:

פתור את מערכות המשוואות הבאות:

$$\begin{cases} 2x^2 + y^2 = 36 \\ x^2 + 3y = 10 \end{cases} \quad (2) \qquad \begin{cases} x^2 + y^2 = 20 \\ x + y = 6 \end{cases} \quad (1)$$

$$\begin{cases} x^2 - 2y^2 = 17 \\ xy = -10 \end{cases} \quad (4) \qquad \begin{cases} 3x^2 + 4y^2 = 16 \\ 5x^2 - 3y^2 = 17 \end{cases} \quad (3)$$

$$\begin{cases} x^2 - 2xy + 8y^2 = 8 \\ 3xy - 2y^2 = 4 \end{cases} \quad (6) \qquad \begin{cases} x^2 - xy - 20y^2 = 0 \\ x + 6y = 1 \end{cases} \quad (5)$$

$$\begin{cases} 16x^2 - y^2 = 391 \\ 4x - y = 23 \end{cases} \quad (8) \qquad \begin{cases} x^2 - y^2 = 33 \\ x + y = 11 \end{cases} \quad (7)$$

$$\begin{cases} \frac{3}{x} + \frac{1}{y} = 5 \\ \frac{4}{y} - \frac{1}{x} = -19 \end{cases} \quad (10) \qquad \begin{cases} 4xy + x = -15 \\ \frac{3}{y} - 2x = 16 \end{cases} \quad (9)$$

$$\begin{cases} xy = 24 \\ (y-x)^2 - 7(y-x) + 10 = 0 \end{cases} \quad (12) \qquad \begin{cases} \frac{3}{x} + \frac{5}{y} = 21 \\ \frac{8}{x} - \frac{1}{y} = 13 \end{cases} \quad (11)$$

$$\begin{cases} \sqrt{\frac{x}{y}} + \sqrt{\frac{y}{x}} = \frac{10}{3} \\ x^2 + y^2 = 9xy + 25 \end{cases} \quad (14) \qquad \begin{cases} x^2y - xy^2 = 84 \\ x^2 - 2xy + y^2 + 5x - 5y = 24 \end{cases} \quad (13)$$

תשובות סופיות:

- | | |
|---|--|
| $(\pm 4, -2)$ (2) | $(2, 4), (4, 2)$ (1) |
| $(5, -2), (-5, 2)$ (4) | $(\pm 2, \pm 1)$ (3) |
| $\left(3, \frac{1}{2}\right), \left(-3, -\frac{1}{2}\right), (2, 1), (-2, -1)$ (6) | $\left(-2, \frac{1}{2}\right), \left(\frac{5}{11}, \frac{1}{11}\right)$ (5) |
| $(5, -3)$ (8) | $(7, 4)$ (7) |
| $\left(\frac{1}{3}, -\frac{1}{4}\right)$ (10) | $\left(-5, \frac{1}{2}\right), \left(-24, -\frac{3}{32}\right)$ (9) |
| $(4, 6), (-6, -4), (3, 8), (-8, -3)$ (12) | $\left(\frac{1}{2}, \frac{1}{3}\right)$ (11) |
| | $(-1.65, 6.35), (-6.35, 1.65), (7, 4), (-4, -7)$ (13) |
| | $(5, 45), (-5, -45), (45, 5), (-45, -5)$ (14) |

משוואות מסכמות מתקדמות:

סיכום כללי:

תזכורת מהירה:

- משוואה דו-ריבועית יכולה להופיע בכל תצורה (עם שורשים, עם ערכים מוחלטים וכו'). העיקרון הוא זיהוי תבנית של הנעלם אשר חוזרת על עצמה לאורך המשוואה. סימון התבנית במשתנה זמני ופתרון עבור משתנה זה תוביל למשוואה מוגדרת ופתירה. לאחר מכן יש להחזיר את ההצבה לתבנית של המשתנה המקורי ולמצוא את ערכיו.
- דרך הפתרון של משוואה עם שורשים היא ע"י בידוד השורש והעלאה בריבוע. במידה ויש יותר משורש אחד המופיעים בחיבור/חיסור יש לבצע את הפעולה פעמיים. חשוב לוודא נכונות של כל הפתרונות המתקבלים ע"י הצבה במשוואה המקורית לפני ההעלאות בריבוע.
- דרך הפתרון של משוואה עם ערכים מוחלטים היא ע"י פיצול המשוואה לתחומים לפי סימני הערך המוחלט. זאת יש לבצע ע"י איפוס הביטוי שבכל ערך מוחלט ומציאת ערכי הנעלם המקיימים זאת, חלוקת המשוואה לתחומים מתאימים ופתרונה בכל תחום. יש לזכור לבדוק האם הפתרון המתקבל נמצא בתחום הפתרון – במידה וכן הוא פתרון של המשוואה, אחרת הוא נפסל.
- משוואה עם פרמטרים נפתרת בצורה רגילה (התייחסות לפרמטרים כאל קבועים מספריים) כאשר יש לציין את תחומי ההגדרה שלהם. יש לבדוק פתרונות שמתקבלים המבוטאים באמצעות הפרמטרים במידה וקיימת הגבלת תחום הגדרה במשוואה.

שאלות:

פתור את המשוואות הבאות:

$$\begin{array}{ll}
 x^2 + 5x - \sqrt{x^2 + 5x} - 30 = 0 & \text{(2)} & x + \sqrt{x+6} - 6 = 0 & \text{(1)} \\
 2x^2 + 6x - \sqrt{x^2 + 3x + 5} = 5 & \text{(4)} & 4x^2 + 16x - 4\sqrt{x^2 + 4x} - 3 = 0 & \text{(3)} \\
 x^2 - \sqrt{6x^2 - 15} = 1 & \text{(6)} & x^2 - \sqrt{16x^2 + 48} + 7 = 0 & \text{(5)} \\
 \frac{\sqrt{x^2 + 4x - 12}}{\sqrt{x-1}} + \sqrt{x+5} = \frac{7}{\sqrt{x-1}} & \text{(8)} & \frac{x^2}{\sqrt{3x-2}} - \sqrt{3x-2} = 1-x & \text{(7)} \\
 \sqrt{x^2 - 3x + 2} + \sqrt{x+3} = \sqrt{x-2} + \sqrt{x^2 + 2x - 3} & \text{(9)} & & \\
 \sqrt{x + \sqrt{14x - 49}} + \sqrt{x - \sqrt{14x - 49}} = \sqrt{14} & \text{(10)} & & \\
 \sqrt{x+6+6\sqrt{x-3}} - \sqrt{x+6-6\sqrt{x-3}} = 2 & \text{(11)} & & \\
 \frac{4}{x + \sqrt{x^2 + x}} - \frac{1}{x - \sqrt{x^2 + x}} = \frac{3}{x} & \text{(12)} & &
 \end{array}$$

פתור את המשוואות הבאות עבור $a > 0$:

$$x^2 + ax - 2a\sqrt{3x^2 + 3ax - 9a^2} = 0 \quad \text{(14)} \qquad x^2 + ax - 2a\sqrt{x^2 + ax - a^2} = 0 \quad \text{(13)}$$

פתור את המשוואות הבאות:

$$\begin{array}{ll}
 |4 - |5 - x|| = |x + 3| & \text{(16)} & |3 - |2 - x| + |x|| = 1 & \text{(15)} \\
 \sqrt{25 + |16x^2 - 25|} = 4 + 4|x+1| & \text{(18)} & \left| \frac{x + |3 - x|}{x + 2} \right| = 18 & \text{(17)} \\
 & & \frac{x^3 - 5x}{\sqrt{2x^2 - 4x - 1} - |x| + 2} = 0 & \text{(19)}
 \end{array}$$

$$\frac{|x+2|}{|x|+2} = |2-x|+2 : \text{הראה כי אין פתרון למשוואה הבאה:} \quad \text{(20)}$$

תשובות סופיות:

$$x = 3 \quad (1)$$

$$x_1 = 4, x_2 = -9 \quad (2)$$

$$x_1 = 0.5, x_2 = -4.5 \quad (3)$$

$$x_1 = 1, x_2 = -4 \quad (4)$$

$$x_{1,2} = \pm 1 \quad (5)$$

$$x_{1,2} = \pm 2 \quad (6)$$

$$. x = 1 \quad (7)$$

$$. x = 3 \quad (8)$$

$$. x = 2 \quad (9)$$

$$. 3.5 \leq x \leq 7 \quad (10)$$

$$. x = 4 \quad (11)$$

$$. x = 1, x = \frac{9}{16} \quad (12)$$

$$x_1 = -2a, x_2 = a \quad (13)$$

$$x_1 = -2a, x_2 = 3a \quad (14)$$

$$. x \leq 0 \quad (15)$$

$$. x = -1 \quad (16)$$

$$. x = -\frac{39}{18}, -\frac{33}{18} \quad (17)$$

$$. x \leq \frac{5}{4}, x = -\frac{1}{4} \quad (18)$$

$$. x = -\sqrt{5} \quad (19)$$

$$. שאלת הוכחה. \quad (20)$$

ביטויים ומשוואות ממעלה שלישית:

סיכום כללי:

נוסחאות הכפל המקוצר ממעלה שלישית:

$$(a \pm b)^3 = a^3 \pm 3a^2b + 3ab^2 \pm b^3$$

$$a^3 \pm b^3 = (a \pm b)(a^2 \mp ab + b^2)$$

שאלות:

פישוט ביטויים:

פשט את הביטויים הבאים:

$$(2y+5)^3 \quad (2)$$

$$(x-3)^3 \quad (1)$$

$$8y^3 + 343 \quad (4)$$

$$8x^3 - 1 \quad (3)$$

$$x^3y^6z^9 - 1 \quad (6)$$

$$a^6 - 27 \quad (5)$$

$$64mn^4 - 8m^4n^7 \quad (8)$$

$$11 + 88x^{12} \quad (7)$$

$$\frac{x^3 + 64}{x^2 + 4x} \quad (10)$$

$$\frac{x^2 + 4x + 4}{x^3 + 6x^2 + 12x + 8} \quad (9)$$

משוואות בנעלם אחד עם נוסחאות הכפל המקוצר:

פתור את המשוואות הבאות:

$$125x^3 = 1 - 15x + 75x^2 \quad (12)$$

$$x^3 - 12x^2 + 48x - 64 = 0 \quad (11)$$

$$x^3 - 7x - 6 = 0 \quad (14)$$

$$x^3 + x - 30 = 0 \quad (13)$$

משוואות בנעלם אחד עם פירוקים שונים:

פתור את המשוואות הבאות:

$$2x^3 + 5x^2 - 2x - 5 = 0 \quad (16)$$

$$2x^3 - 7x^2 + 7x - 2 = 0 \quad (15)$$

מערכת משוואות:

$$\begin{cases} x^3 + y^3 = 243 \\ x + y = 9 \end{cases} \quad (17) \text{ פתור את מערכת המשוואות הבאה:}$$

$$\begin{cases} x^3 - y^3 = 91 \\ x^2y - xy^2 = 30 \end{cases} \quad (18) \text{ פתור את מערכת המשוואות הבאה:}$$

תשובות סופיות:

$$8y^3 + 60y^2 + 150y + 125 \quad (10)$$

$$(2y + 7)(4y^2 - 17y + 49) \quad (11)$$

$$(xy^2z^3 - 1)(x^2y^4z^6 + xy^2z^3 + 1) \quad (12)$$

$$8mn^4(2 - mn)(4 + 2mn + m^2n^2) \quad (13)$$

$$\frac{x^2 - 4x + 16}{x} \quad (14)$$

$$x = \frac{1}{2} \quad (15)$$

$$x_{1,2,3} = -2, -1, 3 \quad (16)$$

$$x_{1,2,3} = -2.5, -1, 1 \quad (17)$$

$$(-5, -6), (6, 5) \quad (18)$$

$$x^3 - 9x + 27x - 27 \quad (1)$$

$$(2x - 1)(4x^2 + 2x + 1) \quad (2)$$

$$(a^2 - 3)(a^4 + 3a^2 + 9) \quad (3)$$

$$8(1 + 2x^4)(1 - 2x^4 + 4x^8) \quad (4)$$

$$\frac{1}{x + 2} \quad (5)$$

$$x = 4 \quad (6)$$

$$x = 3 \quad (7)$$

$$x_{1,2,3} = \frac{1}{2}, 1, 2 \quad (8)$$

$$(3, 6), (6, 3) \quad (9)$$

מבוא למתמטיקה לכלכלנים

פרק 2 - אי שוויונים אלגבריים

תוכן העניינים

- 23 1. אי שוויונים ממעלה ראשונה
- 25 2. אי שוויונים ממעלה שנייה
- 26 3. אי שוויונים ממעלה שלישית
- 27 4. אי שוויונים עם מנה
- 29 5. אי שוויונים כפולים מערכות וגם ואו
- 30 6. שאלות מסכמות
- 32 7. אי שוויונים עם שורשים
- 34 8. מציאת תחום הגדרה
- 36 9. אי שוויונים עם ערך מוחלט

אי-שוויונים ממעלה ראשונה:

סיכום כללי:

פעולות המותרות לביצוע בפתרון אי-שוויון:

- לחבר או לחסר כל מספר או ביטוי.
- לכפול או לחלק בכל מספר או ביטוי חיובי.
- לכפול או לחלק בכל מספר או ביטוי שלילי תוך הפיכת סימן אי-השוויון.
- להעלות בחזקה אי זוגית.
- להעלות בחזקה זוגית אם שני אגפי אי-השוויון אינם שליליים.

פעולות אסורות לביצוע בפתרון אי-שוויון:

- לכפול או לחלק בביטוי שלא יודעים את סימנו.
- להעלות בחזקה זוגית כשיש אגף שלילי.

שאלות:

פתור את אי-השוויונים הבאים:

$6x > 2(3x-1)$ (2)	$45x - 26 > 109$ (1)
$(x-2)^2 + 4 < (x+2)^2 + 20$ (4)	$2(x-5) \geq \frac{1}{2}(4x+6)$ (3)
$4(6x-8) < 8(3x-4)$ (6)	$\frac{8x-4}{2} < \frac{9(x+1)}{3}$ (5)
$\frac{7-x}{10} - \frac{3x-1}{5} + \frac{x+4}{3} < 7$ (8)	$\frac{x-6}{3} - \frac{x-4}{4} \geq 12-x$ (7)

תשובות סופיות:

$$x > 3 \quad (1)$$

$$x \text{ כל} \quad (2)$$

$$x \text{ אף} \quad (3)$$

$$x > -2 \quad (4)$$

$$x < 5 \quad (5)$$

$$x \text{ אף} \quad (6)$$

$$x \geq 12 \quad (7)$$

$$x > -13 \quad (8)$$

אי-שוויונים ממעלה שנייה:

סיכום כללי:

אי שוויון ריבועי הוא מהצורה: $ax^2 + bx + c \begin{matrix} > \\ < \end{matrix} 0$ כאשר $a \neq 0$.

כדי לפתור אי שוויון ריבועי יש למצוא את נקודות האפס של הביטוי הריבועי ולאחר מכן למצוא את תחום ההצבה עבורו הביטוי מקיים את אי השוויון עצמו.

שאלות:

פתור את אי-השוויונים הבאים:

- | | |
|------------------------------|--|
| $x^2 - 12x > -32$ (2) | $x^2 < 144$ (1) |
| $(x+2)(x+4) < 35$ (4) | $(x+2)(x+5) < 0$ (3) |
| $(x-3)(x-7) \geq 8x-56$ (6) | $-x^2 + 13x + 30 < 0$ (5) |
| $(5x+6)^2 \leq 4(x-3)^2$ (8) | $(x-5)^2 + x(x+2) < 89$ (7) |
| $x^2 - 10x + 25 > 0$ (10) | $-3x^2 + 12x > 0$ (9) |
| $2x^2 + 2x + 24 \geq 0$ (12) | $(x-3)^2 > (x-1)(x+6) - x^2 - 3x$ (11) |

תשובות סופיות:

- | | |
|---------------------------|----------------------|
| $x < 4, x > 8$ (2) | $-12 < x < 12$ (1) |
| $-9 < x < 3$ (4) | $-5 < x < -2$ (3) |
| $x \leq 7, x \geq 11$ (6) | $x < -2, x > 15$ (5) |
| $-4 \leq x \leq 0$ (8) | $-4 < x < 8$ (7) |
| $x > 5, x < 5$ (10) | $0 < x < 4$ (9) |
| x כל (12) | $x < 3, x > 5$ (11) |

אי-שוויונים ממעלה שלישית:

סיכום כללי:

אי שוויונים ממעלה גבוהה מיוחסים לכאלה שניתן לכתוב אותם בצורה של פולינומים, כגון: $x^4 + 2x^2 + 1 < 0$, $x^3 - 4x^2 + 4x + 1 > 0$. וכי.
 בפועל נפתור אותם ע"י פירוק לגורמים ומציאת נקודות האפס של כל גורם.
 לאחר מכן נבדוק את כל אחד מתחומי המספרים המתקבלים עבור הנעלם ונראה באלו מהם מתקבל פסוק אמת.

שאלות:

פתור את אי-השוויונים הבאים:

- | | |
|--------------------------------------|------------------------------------|
| $x(x^2 + x + 1) > 0$ (2) | $(x-1)(x-2)(x-3) > 0$ (1) |
| $x^3 - 25x \geq 0$ (4) | $(-2x^2 - 3x + 2)(x+1) \leq 0$ (3) |
| $(x^2 + 8x + 20)(3x - 5) \leq 0$ (6) | $(x^2 + 3x + 5)(x - 2) > 0$ (5) |
| $x^3 - 6x^2 + 9x \leq 0$ (8) | $(x^2 - x - 6)(x - 1) < 0$ (7) |
| $(x-2)(x-4)(x-1) < 0$ (10) | $(x^2 + 6)(x+3) > 0$ (9) |

תשובות סופיות:

- | | |
|----------------------------------|---|
| $x > 0$ (2) | $1 < x < 2, x > 3$ (1) |
| $-5 \leq x \leq 0, x \geq 5$ (4) | $-2 \leq x \leq -1, x \geq \frac{1}{2}$ (3) |
| $x \leq 1\frac{2}{3}$ (6) | $x > 2$ (5) |
| $x \leq 0, x = 3$ (8) | $x < -2, 1 < x < 3$ (7) |
| $x < 1, 2 < x < 4$ (10) | $x > -3$ (9) |

אי-שוויונים עם מנה:

סיכום כללי:

אי שוויון מהצורה: $\frac{f(x)}{g(x)} > 0$ או $\frac{f(x)}{g(x)} < 0$ נקרא אי-שוויון עם מנה, בו $f(x)$

ו- $g(x)$ הם פולינומים כלשהם.

למשל: $\frac{2x+4}{x^2-3x+4} < 0$ בו: $f(x) = 2x+4$ ו- $g(x) = x^2-3x+4$.

כדי לפתור אי שוויון עם מנה נמצא את נקודות האפס של $f(x)$ ושל $g(x)$ ונציב מספרים בתחומים המתקבלים. אלו שיתנו פסוק אמת יהוו את פתרון אי השוויון.

הערות:

- ניתן לבצע כפל של המכנה בריבוע בכדי להעביר את אי השוויון לצורה של מכפלות.
- ניתן להעביר אי שוויון המכיל מספר מנות ומספרים שלמים לצורה הנ"ל ע"י פעולות אלגבריות מתאימות תחילה.

שאלות:

פתור את אי-השוויונים הבאים:

$\frac{x-1}{3x+2} \geq -3$ (2)	$\frac{x-1}{x^2-9} > 0$ (1)
$\frac{x-3}{2x^2-10x+12} > 0$ (4)	$\frac{1}{x^2-16} > 0$ (3)
$\frac{1}{-3(x-1)} < 0$ (6)	$\frac{2x-1}{x-5} \leq 0$ (5)
$\frac{1}{x^2-5x+6} < 0$ (8)	$\frac{x-1}{x+2} \leq 1$ (7)
$\frac{1}{x^2-8x+12} \geq 0$ (10)	$\frac{x^2-7x+6}{-x^2+3x-7} \geq 0$ (9)

תשובות סופיות:

$$x < -\frac{2}{3}, x \geq -\frac{1}{2} \quad \text{(2)}$$

$$2 < x < 3, x > 3 \quad \text{(4)}$$

$$x > 1 \quad \text{(6)}$$

$$2 < x < 3 \quad \text{(8)}$$

$$x < 2, x > 6 \quad \text{(10)}$$

$$-3 < x < 1, x > 3 \quad \text{(1)}$$

$$x < -4, x > 4 \quad \text{(3)}$$

$$\frac{1}{2} \leq x < 5 \quad \text{(5)}$$

$$x > -2 \quad \text{(7)}$$

$$1 \leq x \leq 6 \quad \text{(9)}$$

אי-שוויונים כפולים - מערכת וגם:

סיכום כללי:

אי-שוויון כפול הוא צורה מקוצרת להציג שני אי-שוויונים אשר יש לפתור יחד (קרי: כמערכת יוגם!). למשל במקום לכתוב: $a < b$ וגם $b < c$, ניתן לכתוב: $a < b < c$. מכאן כי כדי לפתור אי שוויון כפול יש לפצל אותו תחילה לשני אי-שוויונים ולפתור כל אחד בנפרד. לאחר מכן יש לקחת את חיתוך הפתרונות.

שאלות:

פתור את אי-השוויונים הבאים:

$$0 < \frac{1}{x+4} < 2 \quad (2)$$

$$3 < x+1 < 5 \quad (1)$$

$$0 < \frac{8-3x}{5-2x} < 4 \quad (4)$$

$$-1 < \frac{x-1}{x+1} < 1 \quad (3)$$

$$6 < \frac{2x+10}{3} \leq \frac{7x-20}{5} \quad (6)$$

$$6x-38 \leq x-3 \leq 5x+7 \quad (5)$$

$$\frac{4x+5}{15} > \frac{3x-8}{5} + \frac{9-x}{3} > 11 \quad (8)$$

$$-1 \leq \frac{2x-6}{4} < \frac{x+2}{3} \quad (7)$$

תשובות סופיות:

$$x > -3\frac{1}{2} \quad (2)$$

$$2 < x < 4 \quad (1)$$

$$x < 2\frac{2}{5}, x > 2\frac{2}{3} \quad (4)$$

$$x > 0 \quad (3)$$

$$x \geq 10 \quad (6)$$

$$-2.5 \leq x \leq 7 \quad (5)$$

$$\emptyset \quad (8)$$

$$1 \leq x < 13 \quad (7)$$

שאלות מסכמות – אי-שוויונים:

שאלות:

פתור את אי-השוויונים הבאים:

$$x \leq -\frac{3}{4} \cap \{-2 < x \leq 5 \cup 0 < x < 8\} \quad (1)$$

$$\frac{(x-3)(x+4)}{2-x} \leq 0 \quad (3) \quad x(x+5) - 3x + 15 \leq 2x - 1 - x(4-x) \quad (2)$$

$$\frac{(2x-3)(x-12)}{(x+1)(4-x)} \geq 0 \quad (5) \quad \frac{(x-5)(3x+1)}{(2-x)(x+7)} < 0 \quad (4)$$

$$\frac{(x-6)^2(x+1)}{x-2} > 0 \quad (7) \quad x(x+3)(2x-5) < 0 \quad (6)$$

$$\frac{x-3}{x^2+2} > 0 \quad (9) \quad \frac{5-2x}{(x-8)^2} \leq 0 \quad (8)$$

$$\frac{x^2-6x+9}{x^3-x} > 0 \quad (11) \quad \frac{x^2-4x}{x^2+2x-3} > 0 \quad (10)$$

$$\frac{x}{x^2-4} + \frac{1}{x+2} < \frac{1}{x-2} \quad (13) \quad \frac{x-7}{x^2+x+3} > 0 \quad (12)$$

$$6 < 5x - x^2 \cap x^2 > 3x + 10 \quad (15) \quad \frac{2x^2}{x^2-6x+8} \geq \frac{x}{x-4} - \frac{x}{x-2} \quad (14)$$

$$1 < \frac{x-1}{x-4} \leq 2 \quad (17) \quad \frac{3}{x-1} - \frac{2}{x} > 0 \cup \frac{1}{x-3} < \frac{1}{1-x} \quad (16)$$

(18) לאלו ערכי x נמצאת הפונקציה $f(x) = \frac{x}{x-3}$ מעל הפונקציה $g(x) = \frac{x+1}{x+3}$?

תשובות סופיות:

- | | |
|---|--------------------------------------|
| $x \leq -4$ (2) | $-2 < x \leq -\frac{3}{4}$ (1) |
| $x < -7, -\frac{1}{3} < x < 2, x > 5$ (4) | $-4 \leq x < 2, 3 \leq x$ (3) |
| $x < -3, 0 < x < 2.5$ (6) | $-1 < x \leq 1.5, 4 < x \leq 12$ (5) |
| $2.5 \leq x < 8, x > 8$ (8) | $x < -1, 2 < x < 6, x > 6$ (7) |
| $x < -3, 0 < x < 1, x > 4$ (10) | $x > 3$ (9) |
| $x > 7$ (12) | $-1 < x < 0, 1 < x < 3, x > 3$ (11) |
| $x \leq 0, 1 \leq x < 2, x > 4$ (14) | $x < -2, 2 < x < 4$ (13) |
| $x \neq 1$ (16) | $x \neq 7$ (15) |
| $-3 < x < -\frac{3}{5}, x > 3$ (18) | $x \geq 7$ (17) |

אי שוויונים עם שורשים:

סיכום כללי:

מקרים בפתרון אי-שוויונות עם שורשים:

מקרה	אי השוויון	פתרון
$a \geq 0$	$\sqrt{f(x)} < a$	$0 \leq f(x) < a^2$
$a < 0$	$\sqrt{f(x)} < a$	אין פתרון
	$\sqrt{f(x)} > a$	כל x בת.ה. של $f(x)$

שאלות:

פתור את אי השוויונים הבאים:

$$\sqrt{2x-5} \geq 1 \quad (2)$$

$$\sqrt{x+3} < 7 \quad (1)$$

$$\sqrt{x^2+x-6} < x-3 \quad (4)$$

$$\sqrt{2x^2+5x-6} > 2-x \quad (3)$$

$$\sqrt{x^2+5x+6} - \sqrt{x^2-x+1} < 1 \quad (6)$$

$$\sqrt{x^2+3x+2} - 1 < \sqrt{x^2-x+1} \quad (5)$$

$$\frac{4}{\sqrt{2-x}} - \sqrt{2-x} < 2 \quad (8)$$

$$\frac{1-\sqrt{1-4x^2}}{x} > \frac{3}{2} \quad (7)$$

$$\sqrt{2-\sqrt{3+x}} < \sqrt{4+x} \quad (10)$$

$$\sqrt{\frac{1}{x^2} - \frac{3}{4}} < \frac{1}{x} - \frac{1}{2} \quad (9)$$

$$\sqrt{1+\frac{9}{x}} + 5\sqrt{\frac{x}{x+9}} \geq 4 \quad (12)$$

$$\sqrt{x+6} > \sqrt{x+1} + \sqrt{2x-5} \quad (11)$$

תשובות סופיות:

(1) $-3 \leq x < 46$

(2) $x \geq 3$

(3) $x < -10, x > 1$

(4) \emptyset

(5) $x \leq -2, -1 \leq x < \frac{-1 + \sqrt{13}}{6}$

(6) $x \leq -3, -2 \leq x < \frac{-13 + \sqrt{73}}{16}$

(7) $\frac{12}{25} < x \leq \frac{1}{2}$

(8) $x < 2\sqrt{5} - 4$

(9) $1 < x \leq \frac{2}{\sqrt{3}}$

(10) $שזה: -2.618 < x \leq 1 - \frac{3 + \sqrt{5}}{2} < x \leq 1$

(11) $2.5 \leq x < 3$

(12) $x < -9, x > 0$

תחום הגדרה:

שאלות:

1 מצא את תחום ההגדרה של הפונקציות הבאות:

א. $f(x) = \sqrt{3x-4}$	ב. $f(x) = \sqrt{x^2 - 5x - 6}$
ג. $f(x) = \sqrt{12x - x^2 - x^3}$	ד. $f(x) = \sqrt{\frac{x+5}{x^2-4}}$
ה. $f(x) = \frac{1}{\sqrt{x+2}-x}$	ו. $f(x) = \frac{\sqrt{3x^2-2x-1}}{2x-3}$

2 מצא את תחום ההגדרה של הפונקציות הבאות:

א. $f(x) = \sqrt{\sqrt{x+2}-3}$	ב. $f(x) = \frac{1}{x+\sqrt{x+6}}$
ג. $f(x) = \sqrt{\frac{2x^2+x-3}{x^2+5x+9}}$	ד. $f(x) = \frac{\sqrt{x^2+5x+6}}{x-1}$

3 תחום ההגדרה של הפונקציה: $f(x) = \sqrt{ax - x^2 - 4}$ הוא $1 \leq x \leq 4$. מצא את ערכו של הפרמטר a .

4 תחום ההגדרה של הפונקציה: $f(x) = \sqrt{\frac{x+a}{x-a}}$ הוא $x \leq -2, x > 2$. מצא את ערכו של הפרמטר a .

5 נתונה הפונקציה: $f(x) = \sqrt{\sqrt{x+6}-a}$, a פרמטר חיובי.

א. הבע באמצעות a את תחום הגדרתה.

ב. מגדירים פונקציה נוספת: $g(x) = \sqrt{\frac{2x}{x+5}}$.

ידוע כי תחום ההגדרה של שתי הפונקציות מכסה את כל ציר המספרים. מצא את תחום הערכים האפשרי של הפרמטר a .

תשובות סופיות:

- (1) א. $x \geq 1\frac{1}{3}$ ב. $x \leq -1, x \geq 6$ ג. $x \leq -4, 0 \leq x \leq 3$
- ד. $-5 \leq x < -2, x > 2$ ה. $-2 \leq x < 2, x > 2$ ו. $x \leq -\frac{1}{3}, 1 \leq x < \frac{3}{2}, x > \frac{3}{2}$
- (2) א. $x \geq 7$ ב. $-6 \leq x \neq -2$ ג. $x \leq -1\frac{1}{2}, x \geq 1$
- ד. $x \leq -3, -2 \leq x \neq 1$
- (3) $a = 5$
- (4) $a = 2$
- (5) א. $x \geq a^2 - 6$ ב. $0 < a \leq 1$

אי שוויונים עם ערך מוחלט:

סיכום כללי:

כללים לפתרון אי שוויון עם ערך מוחלט יחיד:

$ x > a$	$ x < a$	מקרה
$x < -a \cap x > a$	$-a < x < a$	פתרון

כללים לפתרון אי שוויון עם מספר ערכים מוחלטים:

- נמצא את הנקודות המאפסות כל ביטוי עם ערך מוחלט.
- מחלקים את אי השוויון לתחומים לפי נקודות האפס.
- פותרים את אי השוויון לכל תחום בנפרד.
- כותבים פתרון כללי (מערכת או) לכל התחומים יחדיו.

שאלות:

(1) פתור את אי-השוויונים הבאים:

א. $|x+2| < 3$ ב. $|2x+1| > 7$
 ג. $|6-2x| < x$ ד. $|2x+1|-3x > 4$

(2) פתור את אי-השוויונים הבאים:

א. $1 < |4-3x| < 7$ ב. $|2x+3| < 8 < |5-x|$

(3) פתור את אי-השוויונים הבאים:

א. $|x^2 + 6x - 4| < 12$ ב. $|x^2 + x - 10| > 3x - 2$
 ג. $|x^2 - 3x| < 4$ ד. $|6x^2 - 7x - 4| > 1$
 ה. $x^2 - 6|x| + 5 \leq 0$ ו. $x^2 - 6|x+1| - 1 > 0$

(4) פתור את אי-השוויונים הבאים:

א. $ x-3 + 2x+2 >7$	ב. $ x+8 <11- 1-3x $
ג. $ 3-2x -11>4- 6+x $	ד. $ 2x-6 + x+5 >14- 1-x $
ה. $ 5+4x - 3-x +\left 4-\frac{1}{2}x\right \leq 22$	ו. $ x+3 + x^2-5x+4 <19$

(5) פתור את אי-השוויונים הבאים:

א. $\left \frac{3x-1}{x-2}\right \geq 3$	ב. $1\leq\left \frac{x+2}{x-2}\right \leq 2$
ג. $\frac{ x-6 +8x}{x-12}\leq 12$	ד. $\left \frac{x^2+3x+2}{x^2-3x+2}\right >5$

(6) פתור את אי-השוויונים הבאים (ערך מוחלט ושורשים):

א. $\sqrt{x^2- x-12 }<x$	ב. $2-\sqrt{1-x}\leq x+2 -3$
ג. $\sqrt{ 2x+1 -x-1}\leq 4- 3x $	ד. $\frac{ x+2 - x }{\sqrt{4-x^3}}>0$

תשובות סופיות:

- (1) א. $-5 < x < 1$
 ג. $2 < x < 6$
- (2) א. $1\frac{2}{3} < x < 3\frac{2}{3}$ או $-1 < x < 1$
 ב. $-5\frac{1}{2} < x < -3$
- (3) א. $-2 < x < 2$ או $-8 < x < -4$
 ג. $-1 < x < 4$
 ה. $1 \leq x \leq 5$ או $-5 \leq x \leq -1$
- (4) א. $2 < x$ או $x < -2$
 ג. $4 < x$ או $x < -6$
 ה. $-7\frac{3}{7} \leq x \leq 4$
- (5) א. $\frac{7}{6} \leq x < 2$, $x > 2$
 ג. $x < 12$, $x \geq 46$
- (6) א. $x = -1$, $x \geq 3$, $x \neq 12$
 ג. $0 \leq x \leq 1$, $-1 \leq x \leq -\frac{2}{3}$
- ב. $3 < x$ או $x < -4$
 ד. $x < -1$
- ב. $4 < x$ או $x < 2$
 ד. $x < -\frac{1}{2}$, $-\frac{1}{3} < x < \frac{3}{2}$, $x > \frac{5}{3}$
 ו. $x < -5$, $x > 7$
- ב. $-1 < x < 1$
 ד. $4 < x$ או $x < -1$
 ו. $-2 < x < 6$
- ב. $0 \leq x \leq \frac{2}{3}$, $x \geq 6$
- ד. $\frac{1}{2} < x < 1$, $1 < x < 2$, $2 < x \leq 4$
- ב. $x \leq \frac{-15 + \sqrt{33}}{2}$
 ד. $-1 < x < \sqrt[3]{4}$

מבוא למתמטיקה לכלכלנים

פרק 3 - חוקי החזקות והשורשים

תוכן העניינים

39	1. חוקי החזקות
44	2. חוקי השורשים
48	3. כתיבה מדעית של מספרים

חוקי החזקות:

סיכום כללי:

סיכום חוקי החזקות:

$$\begin{array}{lll}
 a^n \cdot a^m = a^{m+n} & .3 & a^1 = a & .2 & a^0 = 1 & .1 \\
 a^m \cdot b^m = (a \cdot b)^m & .6 & (a^n)^m = a^{n \cdot m} & .5 & \frac{a^n}{a^m} = a^{n-m} & .4 \\
 \left(\frac{a}{b}\right)^{-m} = \left(\frac{b}{a}\right)^m & .9 & a^{-m} = \frac{1}{a^m} & .8 & \frac{a^m}{b^m} = \left(\frac{a}{b}\right)^m & .7
 \end{array}$$

שאלות:

(1) פשט את הביטויים הבאים בעזרת החוקים: $a^n a^m = a^{n+m}$ ו- $\frac{a^n}{a^m} = a^{n-m}$

$$\begin{array}{lll}
 b^2 b^5 b^{12} b^3 & .ג & t^3 t^5 t^7 & .ב & a^2 a^6 & .א \\
 \frac{c^6}{c^2} & .ו & \frac{n^{14}}{n^9} & .ה & \frac{k^8}{k^3} & .ד \\
 \frac{y^3 y^{15}}{y^4 y^{14}} & .ט & \frac{x^{30}}{x^9 x^{18}} & .ח & \frac{a^3 a^{19}}{a^{15}} & .ז \\
 \frac{5^{20} 5^3 5^{16}}{5^4 5^{22} 5^8} & .יב & \frac{2^{16} 2^2}{2^{10}} & .יא & 3^2 3^3 3^4 & .י
 \end{array}$$

(2) פשט את הביטויים הבאים בעזרת החוקים: $a^n a^m = a^{n+m}$ ו- $\frac{a^n}{a^m} = a^{n-m}$

$$\begin{array}{lll}
 \frac{x^8 y^5 y^9 x^2}{y^4 x^4} & .ג & \frac{a^{10} b^{13} a^3}{b^4 b^6 b^2 a^{12}} & .ב & \frac{3^4 2^7}{2^6 3^2} & .א
 \end{array}$$

(3) לפניך הביטוי הבא: $\frac{3^6 2^{17} 3^3 2^4}{3^4 2^3 2^2}$

מצא n כך שיתקיים שוויון בין הביטוי $243 \cdot 2^n$ לבין הביטוי הנתון.

(4) חשב ללא מחשבון את ערכי הביטויים הבאים:

א.	$\frac{2^3 \cdot 2^7}{2^4 \cdot 2^5}$	ב.	$\frac{9^3 \cdot 27^2}{3^9 \cdot 81}$
ג.	$\frac{10^9 \cdot 25^5 \cdot 8^{-1}}{40^3 \cdot 125^5}$	ד.	$2^3 + 2^5$

(5) פשט את הביטויים הבאים בעזרת החוק: $(a^n)^m = a^{n \cdot m}$.

א.	$(a^2)^4$	ב.	$(c^3)^{10}$	ג.	$(x^3 x^{10})^2$
ד.	$\frac{(b^2)^3}{b^2 b^3}$	ה.	$\frac{n^7 n^8}{(n^3)^4}$	ו.	$\frac{d^{20} (d^4)^2}{d^{12} (d^3)^2}$
ז.	$\frac{2^5 (2^4)^2 2^3}{(2^3 2^2)^3}$	ח.	$\frac{3^6 (3^3 3^2)^6}{3^{28} (3^2)^3}$	ט.	$\frac{(8^3)^8 8^{11}}{(8^2 8)^3 8^8}$
י.	$\frac{(2^4)^5 (3^6)^7 2^{20}}{3^{35} 2^{40}}$	יא.	$\frac{(3^2)^6 5^{31} 3^7}{(5^2)^{10} 5^{11} 3^{18}}$	יב.	$\frac{(3^2)^7 5^{10} (5^3)^2}{3^9 5^{16}}$

(6) לפניך הביטויים הבאים: $\left((3^2)^3\right)^4$ ו- $\left((3^6)^n\right)^2$.

מצא n כך שיתקיים שוויון בין שני הביטויים.

(7) חשב ללא מחשבון את הביטויים הבאים:

א.	$\frac{2^3 3^5}{2^2 3^4}$	ב.	$\frac{5^{20} 3^{14} 3^8}{3^{20} 5^{12} 5^8}$	ג.	$\frac{7^{12} 2^2 2^6}{2^5 7^{10} 7}$
----	---------------------------	----	---	----	---------------------------------------

(8) פשט את הביטויים הבאים:

א.	$3^2 9 \cdot 81^2$	ב.	$64^2 2^3 8^2$	ג.	$125 \cdot 25 \cdot 5^5$
ד.	$\frac{2^4 \cdot 16^5}{8 \cdot 512}$	ה.	$\frac{(4^2)^3 16}{64 \cdot 2^3}$	ו.	$\frac{\left((3^4)^4\right)^5}{81^3 27^4 3^5}$

9 פשט את הביטויים הבאים :

$$\begin{array}{ll} \text{א.} & \frac{(2a^2b)^3 \cdot (ab^{-3})^2}{4ab^{-2} \cdot \left(\frac{a^2}{b}\right)^4} \\ \text{ב.} & \frac{(k^2)^{m+2} \cdot k^{1-3m}}{(k^{2m})^3 \cdot \frac{1}{k^{7m-4}}} \\ \text{ג.} & \frac{4^{b+3}}{4^{b+1} + 4^{b+2}} \\ \text{ד.} & \frac{1}{x^2} \cdot \frac{x^{n+3} + x^{n+5}}{x^{n+2}} \end{array}$$

10 פשט את הביטויים הבאים בעזרת החוקים: $(ab)^n = a^n b^n$ ו- $\left(\frac{a}{b}\right)^n = \frac{a^n}{b^n}$

$$\begin{array}{lll} \text{א.} & (a^2b)^3 & \text{ב.} & (m^4n^3)^5 & \text{ג.} & (x^{12}y^3)^3 \\ \text{ד.} & \left(\frac{a^3}{b^2}\right)^4 & \text{ה.} & \left(\frac{i^4}{k^3}\right)^7 & \text{ו.} & \left(\frac{a^{14}b^4}{a^6ab^3}\right)^3 \\ \text{ז.} & \left(\frac{x^3y^5y^2x^6}{y^4x^7}\right)^6 & \text{ח.} & \left(\frac{t^7r^{20}t^3}{r^2r^{12}t^8}\right)^2 & \text{ט.} & \left(\frac{(b^{12}c)^2c^{14}}{c(c^3b^5)^4b^3}\right)^2 \end{array}$$

11 חשב ללא מחשבון את הביטויים הבאים :

$$\begin{array}{lll} \text{א.} & \left(\frac{3^9 2^6 2^2}{3^6 2^5 3^2}\right)^2 & \text{ב.} & \left(\frac{(5^4)^2 3^6}{3^5 5^7}\right)^2 & \text{ג.} & \left(\frac{7^3 \cdot 16 \cdot 128 \cdot 49}{(2^2 7)^5}\right)^3 \end{array}$$

12 בטא את הביטויים הבאים מחדש בעזרת שימוש בחזקה שלילית :

$$\begin{array}{lll} \text{א.} & \frac{1}{4^6} & \text{ב.} & \frac{1}{5^3} & \text{ג.} & \frac{1}{2^{10}} \\ \text{ד.} & \frac{1}{8} & \text{ה.} & \frac{1}{81} & \text{ו.} & \frac{1}{125} \end{array}$$

13 בטא את הביטויים הבאים מחדש בעזרת שימוש בחזקה חיובית וחשב את ערכם :

$$\begin{array}{lll} \text{א.} & \frac{1}{4^{-3}} & \text{ב.} & \frac{1}{3^{-2}} & \text{ג.} & \frac{1}{5^{-3}} \end{array}$$

14) חשב את הביטויים הבאים :

ג. $5^6 \cdot 5^{-3} \cdot 5^{-2}$

ב. $2^{-8} \cdot 512 \cdot 2^2$

א. $3^2 \cdot 3^{-5} \cdot 3^7$

ו. $\frac{3^{-6} \cdot 7^7 \cdot 7^{-4}}{3^{-4} \cdot 3^{-3} \cdot 7^3}$

ה. $\frac{2^{-5} \cdot 5^3 \cdot 2^{14}}{5^2 \cdot 5^{-10} \cdot 5^8 \cdot 2^6}$

ד. $2^{14} \cdot 3^{-6} \cdot 2^{16} \cdot 3^4 \cdot 2^{-30}$

15) פשט את הביטויים הבאים לצורה ללא חזקות שליליות.

ג. $\frac{2^{-3}5^4}{5^4 \cdot 125 \cdot (5^2)^{-3} \cdot 2^{-4}}$

ב. $\frac{(4^4)^{-4} 3^{-11}}{(3^{-2}4^3)^{-6}}$

א. $\left(\frac{5^{-4}}{3^2}\right)^{-6}$

16) פשט את הביטויים הבאים :

ג. $\frac{(m^{n+2})^3 \cdot m^{-4n-2}}{\frac{1}{m^{6n+2}} \cdot (m^3)^{n-2}}$

ב. $\frac{(k^2)^{m+2} \cdot k^{1-3m}}{(k^{2m})^3 \cdot \frac{1}{k^{7m-4}}}$

א. $\frac{a^{n+2} \cdot a^{2-3n}}{(a^3)^{n+1}}$

תשובות סופיות:

- (1) א. a^8 ב. t^{15} ג. b^{22} ד. k^5 ה. n^5 ו. c^4
- ז. a^7 ח. x^3 ט. 1 י. 3^9 יא. 2^8 יב. 5^5
- (2) א. 18 ב. ab ג. $x^6 y^{10}$
- (3) $n=16$
- (4) א. 2 ב. $\frac{1}{3}$ ג. $\frac{5}{8}$ ד. 40
- (5) א. a^8 ב. c^{30} ג. x^{26} ד. b ה. n^3 ו. d^{10}
- ז. 2 ח. 9 ט. 8^{18} י. 3^7 יא. 3 יב. 3^5
- (6) $n=2$
- (7) א. 6 ב. 9 ג. 56
- (8) א. 3^{12} ב. 2^{21} ג. 5^{10} ד. 2^{12} ה. 2^7 ו. 3^{51}
- (9) א. $\frac{2b^3}{a}$ ב. k ג. $3\frac{1}{5}$ ד. $\frac{1}{x} + x$
- (10) א. $a^6 b^3$ ב. $m^{20} n^{15}$ ג. $x^{36} y^9$ ד. $\frac{a^{12}}{b^8}$ ה. $\frac{i^{28}}{k^{21}}$ ו. $a^{21} b^3$
- ז. $x^{12} y^{18}$ ח. $t^4 r^{12}$ ט. $b^2 c^6$
- (11) א. 576 ב. 225 ג. 8
- (12) א. 4^{-6} ב. 5^{-3} ג. 2^{-10} ד. 2^{-3} ה. 3^{-4} ו. 5^{-3}
- (13) א. 64 ב. 9 ג. 125
- (14) א. 81 ב. 8 ג. 5 ד. $\frac{1}{9}$ ה. 1000 ו. 3
- (15) א. $5^{24} \cdot 3^{12}$ ב. $\frac{4^2}{3^{23}}$ ג. $5^3 \cdot 2^4$
- (16) א. a^{1-5n} ב. k ג. m^{2n+12}

חוקי השורשים:

סיכום כללי:

סיכום חוקי השורשים:

$$\begin{array}{lll}
 \sqrt[n]{a^n} = a^{\frac{n}{n}} & .3 & \sqrt[n]{a} = a^{\frac{1}{n}} & .2 & \sqrt{a} = a^{\frac{1}{2}} & .1 \\
 \sqrt[n]{\sqrt[m]{a}} = \sqrt[n \cdot m]{a} & .6 & \sqrt[m]{\frac{a}{b}} = \frac{\sqrt[m]{a}}{\sqrt[m]{b}} & .5 & \sqrt[n]{a} \cdot \sqrt[n]{b} = \sqrt[n]{a \cdot b} & .4
 \end{array}$$

שאלות:

17) הבא את הביטויים הבאים לצורה: $\sqrt[n]{a^m}$.

א. $3^{\frac{1}{4}}$	ב. $2^{\frac{3}{5}}$	ג. $6^{\frac{5}{6}}$
ד. $-12^{\frac{2}{7}}$	ה. $-(-4)^{\frac{1}{3}}$	ו. $-(-3)^{\frac{3}{4}}$
ז. $5^{-\frac{1}{4}}$	ח. $27^{\frac{1}{3}}$	ט. $64^{-\frac{5}{6}}$

18) חשב ללא מחשבון את ערכם של הביטויים הבאים:

א. $\sqrt{49}$	ב. $-\sqrt{25}$	ג. $\sqrt[3]{8}$
ד. $-\sqrt[3]{128}$	ה. $\sqrt[3]{(-2)^6}$	ו. $(\sqrt[5]{1024})^2$
ז. $(\sqrt[5]{-243})^3$	ח. $\sqrt[4]{-16}$	ט. $\sqrt[4]{-25^2}$
י. $\sqrt[4]{(-25)^2}$		

19) חשב ללא מחשבון את ערכם של הביטויים הבאים :

א. $8^{\frac{2}{3}}$	ב. $32^{\frac{3}{5}}$	ג. $128^{\frac{2}{7}}$
ד. $\left(\frac{1}{25}\right)^{-1.5}$	ה. $\left(2\frac{1}{4}\right)^{-2.5}$	ו. $\left(\frac{64}{343}\right)^{\frac{2}{3}}$
ז. $81^{\frac{3}{4}} \cdot 64^{\frac{1}{3}}$	ח. $343^{\frac{2}{3}} \cdot 100^{\frac{1}{2}}$	ט. $16^{\frac{1}{4}} \cdot 8^{\frac{1}{3}} \cdot 4^{\frac{1}{2}}$

20) חשב ללא מחשבון את ערך הביטוי הבא : $\frac{\sqrt[5]{2^2} \cdot \sqrt{8}}{\sqrt[3]{128}}$

21) פשט את הביטויים הבאים :

א. $\sqrt{2} \cdot \sqrt{8}$	ב. $\sqrt{3} \cdot \sqrt{27}$	ג. $\sqrt{4} \cdot \sqrt{5} \cdot \sqrt{20}$
ד. $\frac{\sqrt{72}}{\sqrt{2}}$	ה. $\frac{\sqrt[3]{81}}{\sqrt[3]{3}}$	ו. $\frac{\sqrt[5]{96}}{\sqrt[5]{3}}$
ז. $\frac{\sqrt[5]{2^2} \cdot \sqrt{8}}{\sqrt[5]{128}}$	ח. $\frac{\sqrt[3]{500} \cdot \sqrt{5}}{\sqrt[4]{25^2} \cdot \sqrt[3]{4}}$	ט. $\frac{\sqrt[3]{8^2} \sqrt[4]{25}}{\sqrt[4]{400} \sqrt{2}}$

22) הכנס לתוך שורש את המספרים החופשיים :

א. $3\sqrt{2}$	ב. $5\sqrt{3}$	ג. $\frac{\sqrt{36}}{2}$
ד. $2\sqrt[3]{3}$	ה. $x\sqrt{x}$	

23) הכנס את כל המקדמים בביטויים הבאים לתוך השורש :

א. $2\sqrt{5}$	ב. $4\sqrt[3]{2}$	ג. $2\sqrt[5]{3}$
ד. $\frac{\sqrt{24}}{2}$	ה. $\frac{\sqrt[3]{24}}{2}$	ו. $\frac{3\sqrt[4]{5000}}{10}$
ז. $-5\sqrt[3]{2}$	ח. $-5\sqrt[4]{2}$	ט. $-5\sqrt[5]{-2}$

24) הוצא מהשורש את הכופל הגדול ביותר :

- א. $\sqrt{12}$ ב. $\sqrt{48}$ ג. $\sqrt{63}$
- ד. $\sqrt[3]{54}$ ה. $\sqrt{x^5}$

25) חלץ מן הביטויים הבאים את המקדם הגבוה ביותר ככל הניתן :

- א. $\sqrt{40}$ ב. $\sqrt{50}$ ג. $\sqrt{320}$
- ד. $\sqrt[3]{108}$ ה. $\sqrt[3]{56}$ ו. $\sqrt[3]{160}$
- ז. $\sqrt[4]{162}$ ח. $\sqrt[5]{972}$ ט. $\sqrt[9]{192}$

26) פשט את הביטויים הבאים :

- א. $\sqrt{18} - \sqrt{8}$ ב. $\sqrt{7} + \sqrt{63}$ ג. $\sqrt[3]{16} + \sqrt[3]{128}$
- ד. $\sqrt[4]{405} - \sqrt[4]{80}$ ה. $\frac{20}{\sqrt{5}}$ ו. $\frac{\sqrt{8}}{2}$
- ז. $\frac{16}{\sqrt{2}}$ ח. $\frac{6}{\sqrt{3} + \sqrt{12}}$ ט. $\frac{10}{\sqrt[5]{160} - \sqrt[5]{5}}$

27) פשט את הביטויים הבאים :

- א. $3^{\frac{1}{4}} \cdot 9^{-2.5} \cdot 27^{\frac{3}{2}}$ ב. $2^{\frac{3}{4}} \cdot 16^{\frac{1}{2}} \cdot 64^{-3}$ ג. $125^{\frac{1}{6}} \cdot 5^2 \cdot 5^{-\frac{2}{3}}$
- ד. $\frac{27^{\frac{4}{3}} \cdot 3^{-\frac{2}{3}}}{9^{\frac{1}{6}}}$ ה. $\frac{49^{\frac{2}{5}} \cdot 7^{-\frac{6}{5}}}{343^{\frac{1}{5}}}$ ו. $\frac{512^{\frac{1}{4}} \cdot 64^{\frac{3}{4}}}{128^{\frac{1}{8}} \cdot 2^{-2}}$

תשובות סופיות:

- (17) א. $\sqrt[4]{3}$ ב. $\sqrt[5]{2^3}$ ג. $\sqrt[6]{6^5}$ ד. $-\sqrt[7]{12^2}$ ה. $-\sqrt[3]{-4}$ ו. ϕ
- ז. $\frac{1}{\sqrt[4]{5}}$ ח. $\frac{1}{\sqrt[3]{27}}$ או $\frac{1}{3}$ ט. $\frac{1}{\sqrt[6]{64^5}}$ או $\frac{1}{2^5}$
- (18) א. 7 ב. -5 ג. 2 ד. -2 ה. 4 ו. 16
- ז. -27 ח. ϕ ט. ϕ י. 5
- (19) א. 4 ב. $\frac{1}{8}$ ג. $\frac{1}{4}$ ד. 125 ה. $\frac{32}{243}$ ו. $\frac{49}{16}$
- ז. $\frac{27}{4}$ ח. $\frac{10}{49}$ ט. $\frac{1}{2}$
- (20) $\sqrt{2}$
- (21) א. 4 ב. 9 ג. 20 ד. 6 ה. 3 ו. 2
- ז. $\sqrt{2}$ ח. $\sqrt{5}$ ט. $\sqrt{2}$
- (22) א. $\sqrt{18}$ ב. $\sqrt{75}$ ג. $\sqrt{9}$ ד. $\sqrt[3]{24}$ ה. $\sqrt{x^3}$
- (23) א. $\sqrt{20}$ ב. $\sqrt[3]{128}$ ג. $\sqrt[5]{96}$ ד. $\sqrt{6}$ ה. $\sqrt[3]{3}$
- ו. $\sqrt[4]{40 \frac{1}{2}}$ ז. $\sqrt[3]{-250}$ ח. $-\sqrt[4]{1250}$ ט. $\sqrt[5]{5^5 \cdot 2}$
- (24) א. $2\sqrt{3}$ ב. $4\sqrt{3}$ ג. $3\sqrt{7}$ ד. $3\sqrt[3]{2}$ ה. $x^2\sqrt{x}$
- (25) א. $2\sqrt{10}$ ב. $5\sqrt{2}$ ג. $8\sqrt{5}$ ד. $3\sqrt[3]{4}$ ה. $2\sqrt[3]{7}$ ו. $2\sqrt[5]{5}$
- ז. $3\sqrt[4]{2}$ ח. $3\sqrt[5]{4}$ ט. $2\sqrt[6]{3}$
- (26) א. $\sqrt{2}$ ב. $4\sqrt{7}$ ג. $6\sqrt[3]{2}$ ד. $\sqrt[4]{5}$ ה. $4\sqrt{5}$ ו. $\sqrt{2}$
- ז. $8\sqrt{2}$ ח. $\frac{2}{\sqrt{3}}$ או $\frac{2\sqrt{3}}{3}$ ט. $\frac{10}{\sqrt[5]{5}}$ או $2\sqrt[5]{5^4}$
- (27) א. $\frac{1}{\sqrt[4]{3}}$ ב. $\frac{1}{\sqrt[4]{2^{61}}}$ ג. $\sqrt[6]{5^{11}}$ ד. 27 ה. $\frac{1}{7}$ ו. $\sqrt[8]{2^5}$

כתיבה מדעית של מספרים:

שאלות:

28) בטא את המספרים הבאים בכתיב מדעי:

א. 15,000,000	ב. 1,500,000
ג. 150,000,000,000	ד. 23,400,000
ה. 0.0003	ו. 0.00000042
ז. 0.000000042	ח. 0.00000000042

29) בטא את המספרים הבאים בכתיב מדעי:

א. $(3,000,000)^2$	ב. $(2,000,000)^2$
ג. $(5,000)^3$	ד. $(50,000)^3$
ה. $(0.0002)^4$	ו. $(0.00004)^3$
ז. $(0.000005)^3$	ח. $(0.000000007)^3$

תשובות סופיות:

28) א. $1.5 \cdot 10^7$	ב. $1.5 \cdot 10^6$	ג. $1.5 \cdot 10^{11}$	ד. $2.34 \cdot 10^7$	ה. $3 \cdot 10^{-4}$
ו. $4.2 \cdot 10^{-7}$	ז. $4.2 \cdot 10^{-8}$	ח. $4.2 \cdot 10^{-10}$		
29) א. $9 \cdot 10^{12}$	ב. $4 \cdot 10^{12}$	ג. $1.25 \cdot 10^{11}$	ד. $1.25 \cdot 10^{14}$	ה. $1.6 \cdot 10^{-15}$
ו. $6.4 \cdot 10^{-14}$	ז. $1.25 \cdot 10^{-16}$	ח. $3.43 \cdot 10^{-25}$		

מבוא למתמטיקה לכלכלנים

פרק 4 - משוואות ואי-שוויונים מעריכיים

תוכן העניינים

1. משוואות מעריכיות יסודיות 49
2. משוואות עם חיבור וחסור איברים 51
3. משוואות בהן המשתנה גם בבסיס 53
4. משוואות מסכמות שונות 54
5. משוואות עם קבוע אוילר 55
6. מערכת משוואות מעריכיות 56
7. אי שוויונים מעריכיים 57
8. אי-שוויונים עם משתנה בבסיס ובמעריך 58

משוואות מעריכיות יסודיות:

סיכום כללי:

- פתרון כללי של משוואת מעריכית מהצורה: $a^x = a^y$ הוא: $x = y$.
- פתרון של משוואה מהצורה: $a^x = 1$ הוא: $x = 0$ שכן: $a^x = 1 = a^0$.
- פתרון של משוואה מהצורה: $a^x = b^x$ הוא: $x = 0$ שכן: $a^x = b^x = 1$ ללא תלות בבסיסים.

שאלות:

(1) פתור את המשוואות הבאות (שימוש בחוקי החזקות היסודיים):

א. $2^x = 16$ ב. $5^x \cdot 25^{x+2} = 125$

ג. $10^{x-2} = 10000^{x+1}$ ד. $9^x \cdot 3^{x^2} = 81^{3x-4}$

ה. $(2^x \cdot 32)^3 = 8$ ו. $(5^{x^2})^5 \cdot \frac{1}{5^5} = 625^{x-1}$

ז. $\frac{7^x}{343^3} = 1$ ח. $(25 \cdot 0.2^{2x})^2 = \left(\frac{1}{125}\right)^{1-x}$

(2) פתור את המשוואות הבאות (הבסיס הוא שבר):

א. $27 \cdot \left(\frac{3}{2}\right)^{5x+2} = 8$ ב. $\left(\frac{3}{4}\right)^{2-x} \cdot \left(\frac{4}{3}\right)^{3x} = \left(\frac{9}{16}\right)^{7+x}$

ג. $25 \left(\frac{7}{5}\right)^{x^2-2x} \cdot \left(\frac{5}{7}\right)^{4-x} = 49$

(3) פתור את המשוואות הבאות (שימוש בחוקי השורשים):

א. $\sqrt{27} \cdot \left(\frac{1}{3}\right)^{2x} = 9\sqrt{3}$ ב. $\sqrt{3^{x+7}} = 81$

ג. $(9\sqrt{27})^{3x} \cdot 3^{2-x} = \frac{1}{9}$ ד. $\sqrt[3]{16} \cdot \left(\frac{1}{2^x}\right)^3 = \frac{1}{16}$

ה. $2^{\sqrt{x}} \cdot \frac{1}{\sqrt{2^x}} = 8(\sqrt{8})^{-\sqrt{x}}$ ו. $5^x \cdot \frac{1}{25^5} = 125^{\sqrt{x}}$

4) פתור את המשוואות הבאות (מכפלת בסיסים שונים):

א. $2^x = 7^x$	ב. $3^x \cdot \frac{625}{\sqrt{25^x}} = 81$
ג. $2^{3x} \cdot 5^{3x} = 1000000$	ד. $2^{x+1} \cdot 3^{x-2} \cdot 7^x = 392$
ה. $243 \cdot 2^{x-1} \cdot 18^{x-9} = \frac{1}{3^{x-2}}$	ו. $108 \cdot \frac{1}{2^{1-2x}} = 72^x \cdot \sqrt{0.5}$
ז. $2^{2x+2} \cdot 5^{x+1} = (2\sqrt{5})^{4-x}$	

תשובות סופיות:

א. $x = 4$	ב. $x = -\frac{1}{3}$	ג. $x = -2$	ד. $x = 2, 8$	ה. $x = -4$
ו. $x = 1, -\frac{1}{5}$	ז. $x = 9$	ח. $x = 1$		
א. $x = -1$	ב. $x = -2$	ג. $x = 3, -2$		
א. $x = -\frac{1}{2}$	ב. $x = 1$	ג. $x = -\frac{8}{19}$	ד. $x = 2, -\frac{2}{3}$	ו. $x = 25$
א. $x = 0$	ב. $x = 4$	ג. $x = 2$	ד. $x = 2$	ה. $x = 5$
ו. $x = 1.5$	ז. $x = \frac{2}{3}$			

5) פתור את המשוואות הבאות (משוואות מסכמות):

א. $\frac{1}{25^{1-x}} - 6 \cdot 5^{x-1.5} + 1 = 0$	ב. $3^x - \sqrt{16 \cdot 3^{x+1}} = -9$
ג. $36^x - 6^{x+1} \cdot 3^x + 8 \cdot 9^x = 0$	ד. $4 \cdot 9^x - 10 \cdot 6^x + 6 \cdot 4^x = 0$
ה. $25 \cdot 5^{2x} + 16 \cdot 15^x = 9^{x+1}$	ו. $9^x + 4^x - 6^x = \frac{7}{6^{1-x}}$
ז. $\frac{8^{2x} - 8}{7} = 4^x - 2$	ח. $2^{3x} - 2^{2x+2} - 2^x + 4 = 0$

תשובות סופיות:

א. $x=3$	ב. $x=2$	ג. $x=4$	ד. $x=1$
א. $x=\frac{1}{2}$	ב. $x=0$	ג. $x=\frac{1}{3}$	ד. $x=\frac{1}{4}$
ה. $x=-3$	ו. $x=-2$	ז. $x=-3$	ח. $x=-2$
א. $x=2,3$	ב. $x=1,-2$	ג. $x=0$	ד. $x=0$
ה. $x=0,1$	ו. $x=-6,-9$		
א. $x=1, -\frac{1}{2}$	ב. $x=1$		
א. $x=\frac{1}{2}, 1\frac{1}{2}$	ב. $x=1,3$	ג. $x=1,2$	ד. $x=1,0$
ה. $x=-2$	ו. $x=1,-1$	ז. $x=0, \frac{1}{2}$	ח. $x=0,2$

משוואות בהן המשתנה גם בבסיס:

סיכום כללי:

במשוואות עם משתנה בבסיס יש לדרוש תנאי עבורו הבסיס חיובי. יש לקחת את חיתוך תחומי ההגדרה (במידה וקיימים ביטויים עם שורשים או שברים) יחד עם תוצאת השוואת המעריכים.

הערה:

יש לבדוק את ערכי ה- x עבורם הבסיס שווה ל-1 ולראות האם מתקבל פסוק אמת או פסוק שקר. בהתאם יש להוסיף או להוריד אותו מתחום המספרים המהווים את פתרון המשוואה.

שאלות:

פתור את המשוואות הבאות:

$$(\sqrt{3-x})^{\sqrt{x}} = (\sqrt[3]{3-x})^x \cdot \sqrt{\sqrt[3]{3-x}} \quad (1)$$

$$\left(1 + \frac{1}{x}\right)^{x^2+x} = 1 \quad (2)$$

$$\frac{|x-3|^{x^2-2}}{|x-3|^{x-1}} = |x-3|^{-1} \quad (3)$$

תשובות סופיות:

$$x = \frac{1}{4}, 1, 2 \quad (1)$$

$$\text{אין פתרון.} \quad (2)$$

$$x = 0, 1, 2, 4 \quad (3)$$

