

# מבוא למתמטיקה דיסקרטית



## תוכן העניינים

1	1. לוגיקה
15	2. תורת הקבוצות
29	3. פונקציות
43	4. יחסים
55	5. עוצמות
60	6. קומבינטוריקה בסיסית
74	7. הבינום של ניוטון
76	8. הכלה והדחה
79	9. פונקציות יוצרות
82	10. נוסחאות נסיגה (רקורסיה)
87	11. שובך היונים
89	12. תורת הגרפים

# מבוא למתמטיקה דיסקרטית

פרק 1 - לוגיקה

תוכן העניינים

1. מבוא ..... 1
2. הקשרים ..... (ללא ספר) 2
3. טאוטולוגיה, סתירה ומושגים נוספים ..... 2
4. קבוצת קשרים שלמה ..... 7
5. צורות נורמליות ..... 8
6. חוקי דה מורגן ..... (ללא ספר) 8
7. תחשיב הפרדיקטים ..... 9
8. תרגול בשיטות ההוכחה השונות ..... 13

## מבוא

### שאלות

- 1 קבעו בכל אחד מהסעיפים האם נכון או לא נכון :
- הביטוי "בני ישראל הלכו במדבר ארבעים שנה" הוא פסוק.
  - הביטוי "ארבעים שנה" הוא פסוק.
  - שלילת הפסוק "האריה טרף את הצבי" היא "הצבי טרף את האריה".
  - הפסוק " $1+1=2$  או  $2=3$ " הוא פסוק אמת.
  - הפסוק " $1+1=2$  וגם  $2=3$ " הוא פסוק אמת.
  - הפסוק "אם  $1+1=2$  אז  $2=3$ " הוא פסוק אמת.
  - הפסוק "אם  $2=3$  אז  $1+1=2$ " הוא פסוק אמת.
  - הפסוק "אם  $2=3$  אז  $1+1 \neq 2$ " הוא פסוק אמת.
  - שלילת הפסוק " $a \neq 4$  וגם  $b \neq 3$ " היא " $a+b=7$  או  $ab=12$ ".
  - שלילת הפסוק " $a \neq 4$  או  $b \neq 3$ " היא " $a+b=7$  וגם  $ab=12$ ".
  - שלילת הפסוק " $a \notin \{3,4\}$  או  $b \notin \{3,4\}$ " היא " $a+b=7$  וגם  $ab=12$ ".

- 2 רשמו את טבלאות האמת של הפסוקים הבאים :

א.  $(p \wedge q) \vee \neg r$

ב.  $\neg(p \wedge q) \rightarrow (\neg r)$

ג.  $(p \wedge \neg q) \vee r$

ד.  $(p \vee q) \rightarrow (q \rightarrow r)$

- 3 בטאו את שלילת הפסוקים הבאים (בלי קשר לנכונותם):

א. דוד יפה או ראובן מכוער.

ב. האוכל חם וטעים.

ג. לכל  $x$  קיים  $y$ , שהוא השורש הריבועי של  $x$ .

ד. כל תרנגולת כחולה עוזבת את הלול כדי להטיל ביצים.

ה. כל פנתר שהוא ורוד משחק בסרטים מצוירים.

ו. כל פנתר שהוא ורוד קוראים לו יוסי או שהוא משחק בסרטים מצוירים.

ז. כל פנתר שהוא ורוד קוראים לו יוסי וגם הוא משחק בסרטים מצוירים.

ח. לכל נגר קיים אדם שכל רהיטיו יוצרו בידי נגר זה.

ט. אם יהיה יום יפה וגם יהיה לי מצב רוח טוב אז אצא לטיול.

י. אם יהיה יום יפה אז אם יהיה לי מצב רוח טוב אז אצא לטיול.

## טאוטולוגיה, סתירה ומושגים נוספים

### שאלות

1) בדקו אילו מזוגות הפסוקים הבאים שקולים לוגית. במקרה שהתשובה חיובית, הראו זאת הן בעזרת טבלת אמת והן בעזרת עץ שקר.

$$\text{א. } \neg(p \rightarrow q) \quad p \wedge (\neg q)$$

$$\text{ב. } (\neg p) \rightarrow q \quad p \vee (\neg q)$$

$$\text{ג. } p \rightarrow (\neg q) \quad \neg(p \wedge q)$$

$$\text{ד. } (p \vee q) \wedge (\neg q) \quad p \wedge (\neg q)$$

$$\text{ה. } p \leftrightarrow q \quad (p \wedge q) \vee ((\neg p) \wedge (\neg q))$$

$$\text{ו. } (s \rightarrow (p \wedge (\neg r))) \wedge ((p \rightarrow (r \vee q)) \wedge s) \quad p \vee u$$

ז. הראו כי  $\neg(r \wedge (p \vee q)) \equiv ((\neg p) \wedge (\neg q)) \vee \neg r$ , בעזרת זהויות יסוד.

2) יהיו  $\alpha_1, \alpha_2, \alpha_3, \beta$  הפסוקים:

$$\alpha_1 : (A \vee B) \rightarrow (D \rightarrow C)$$

$$\alpha_2 : B \rightarrow \neg(C \wedge A)$$

$$\alpha_3 : C \leftrightarrow (A \wedge D)$$

$$\beta : D \vee (B \wedge C)$$

בדקו אלו מהטענות הבאות נכונות והוכיחו:

$$\text{א. } \alpha_1, \alpha_2, \alpha_3 \Rightarrow \beta$$

ב.  $\beta$  אינה נובעת טאוטולוגית מהפסוקים  $\alpha_1, \alpha_2, \alpha_3$ , אך מתיישבת אתם.

ג.  $\beta$  אינה מתיישבת עם הפסוקים  $\alpha_1, \alpha_2, \alpha_3$ , כלומר סותרת אתם.

3 הוכיחו כי הפסוקים הבאים הינם טאוטולוגיות, ללא שימוש בטבלת אמת:

א.  $p \vee (\neg p)$

ב.  $p \vee (p \rightarrow q)$

ג.  $(p \rightarrow q) \vee (q \rightarrow r)$

ד.  $(p \wedge (p \rightarrow q)) \rightarrow q$

ה.  $((p \rightarrow q) \wedge (q \rightarrow r)) \rightarrow (p \rightarrow r)$

ו.  $((p \rightarrow r) \wedge (q \rightarrow r)) \rightarrow ((p \vee q) \rightarrow r)$

ז.  $(q \vee p \vee r) \rightarrow ((\neg p) \rightarrow ((q \vee r) \wedge (\neg p)))$

ח.  $((B \rightarrow (C \wedge (\sim A))) \wedge ((\sim B) \vee C) \rightarrow D) \wedge (E \rightarrow (\sim D)) \rightarrow (A \rightarrow \sim E)$

ט. הוכיחו בעזרת טבלת אמת ש- $(u \rightarrow v) \leftrightarrow ((\neg v) \rightarrow (\neg u))$  טאוטולוגיה.

י. הוכיחו כי הפסוק הבא הוא טאוטולוגיה (מותר להסתמך על סעיף ט):

$$((u \rightarrow v) \leftrightarrow ((\neg v) \rightarrow (\neg u))) \rightarrow (((p \rightarrow r) \wedge ((\neg q) \rightarrow p) \wedge (\neg r)) \rightarrow q)$$

4 בארץ חלם מתקיימת שביתת רופאים במטרה להגדיל את תקציב הבריאות. להלן ניתוח המצב:

\* אם הרופאים לא יסיימו את השביתה אז הנהלות בתי החולים יתערבו.

\* אם לא תיפגע בריאותם של החולים אז הממשלה לא תגדיל את הקציב.

\* אם הנהלות בתי החולים יתערבו אז לא תפגע בריאותם של החולים או שבית המשפט יתערב.

\* בית המשפט לא יתערב וגם הממשלה לא תגדיל את התקציב.

מסקנה: הרופאים יסיימו את השביתה.

נסמן:  $D$  – הרופאים יסיימו את השביתה,  $H$  – הנהלות בתי החולים יתערבו,

$P$  – בית המשפט יתערב,  $C$  – לא תפגע בריאותם של החולים,  $M$  – הממשלה

תגדיל את התקציב.

א. הצרינו את הטיעון לשפת תחשיב הפסוקים בעזרת המשתנים המוצעים.

ב. בדקו, ללא שימוש בטבלת אמת, אם הטיעון תקף.

- 5) בארץ חלם מתקיימות בחירות. זרובבל, כתבנו לענייני מפלגות, מנתח את המצב:
- \* אם אבי ייבחר לראשות מפלגת נתיב את דני יפרוש.
  - \* אם שמעון יציע לדני תפקיד אז דני יפרוש.
  - \* אם בני ייבחר לראשות מפלגת פיתה אז שמעון יציע לדני תפקיד או שאבי ייבחר לראשות מפלגת נתיב.
  - \* בני יבחר לראשות מפלגת פיתה.
  - לכן, כתבנו מסיק שדני יפרוש.
- נסמן:  $A$  – אבי ייבחר לראשות מפלגת נתיב,  $B$  – בני יבחר לראשות מפלגת פיתה,  $C$  – שמעון יציע לדני תפקיד,  $D$  – דני יפרוש. הצרינו את הטענה לשפת תחשיב הפסוקים והוכיחו כי המסקנה תקפה.
- 6) בפרס העתיקה מחליט היזם וייזתא לבנות תיאטרון. אם נרצה שהתיאטרון נגיש לתושבים אז נצטרך להקימו בלב העיר. אם נרצה שהתיאטרון יהיה רווחי, אז הוא יצטרך להיות גדול ומרווח כדי שיכיל הרבה אנשים. אבל אם התיאטרון יהיה גדול ומרווח ויבנה בלב העיר, אז הוא יעלה 10 מיליון זוזים פרסיים. אבל לויזתא היזם אין 10 מיליון זוזים פרסיים. לכן, וייזתא היזם מסיק כי התיאטרון יוקם במקום לא נגיש לתושבים או שלא יהיה גדול ומרווח.
- א. תרגמו את ניתוח המצב לשפת הפסוקים, תוך שימוש בסימונים הבאים:
- $N$  – נגיש לתושבים,  $L$  – בלב העיר,  $Y$  – יכיל הרבה אנשים,  $G$  – גדול ומרווח,  $M$  – מחירו יעלה על...,  $R$  – רווחי.
- ב. הצרינו את ההנחות והמסקנה לשפת הפסוקים ובדקו האם המסקנה תקפה, ללא שימוש בטבלת אמת.
- 7) הוכיחו או הפריכו כל אחת מהטענות הבאות (כאשר  $p, q, r$  פסוקים אטומים):
- א.  $(p \vee q) \Rightarrow p$
  - ב.  $(p \vee q) \Rightarrow q$
  - ג.  $(p \rightarrow q) \Rightarrow q$
  - ד.  $p, p \rightarrow q \Rightarrow q$
  - ה.  $(p \rightarrow q) \wedge (p \rightarrow r) \wedge p \Rightarrow r$
  - ו.  $r \Rightarrow (p \rightarrow q) \wedge (p \rightarrow r) \wedge p$
  - ז.  $A \rightarrow B, C \rightarrow B, D \rightarrow (A \vee C), D \Rightarrow B$
  - ח.  $(A \vee B \rightarrow D), D \rightarrow (C \vee P), P \rightarrow Q, (\neg C) \wedge (\neg Q) \Rightarrow \neg A$
  - ט.  $(B \rightarrow (C \wedge (\sim A))), (((\sim B) \vee C) \rightarrow D), (E \rightarrow (\sim D)) \models (A \rightarrow \sim E)$

8 נתון כי  $\alpha, \beta, \gamma$  פסוקים לאו דווקא אטומים.

הוכיחו או הפריכו כל אחת מהטענות הבאות:

- א. אם  $\alpha$  סתירה וגם  $\alpha \Rightarrow \beta \vee \gamma$ , אז  $\beta \Rightarrow \neg \gamma$ .
- ב. אם  $\alpha$  טאוטולוגיה וגם  $\alpha \Rightarrow \beta \vee \gamma$ , אז  $\neg \beta \Rightarrow \gamma$ .
- ג. אם  $\alpha \Rightarrow \beta \vee \gamma$ , אז  $((\alpha \Rightarrow \beta) \vee (\alpha \Rightarrow \gamma))$ .
- ד. אם  $((\alpha \Rightarrow \beta) \vee (\alpha \Rightarrow \gamma))$ , אז  $\alpha \Rightarrow \beta \vee \gamma$ .
- ה. אם  $\alpha \Rightarrow \beta \wedge \gamma$ , אז  $((\alpha \Rightarrow \beta) \wedge (\alpha \Rightarrow \gamma))$ .
- ו. אם  $((\alpha \Rightarrow \beta) \wedge (\alpha \Rightarrow \gamma))$ , אז  $\alpha \Rightarrow \beta \wedge \gamma$ .
- ז. אם  $\alpha \Rightarrow (\beta \rightarrow \gamma)$ , אז  $(\alpha \rightarrow \beta) \Rightarrow \gamma$ .
- ח. אם  $(\alpha \rightarrow \beta) \Rightarrow \gamma$ , אז  $\alpha \Rightarrow (\beta \rightarrow \gamma)$ .
- ט. אם  $\alpha \vee \beta \Rightarrow \gamma$ , אז  $(\alpha \Rightarrow \gamma) \vee (\beta \Rightarrow \gamma)$ .
- י. אם  $(\alpha \Rightarrow \gamma) \vee (\beta \Rightarrow \gamma)$ , אז  $\alpha \vee \beta \Rightarrow \gamma$ .
- יא. אם  $\alpha \Rightarrow \beta \rightarrow \gamma$ , אז  $\alpha, \beta \models \gamma$ .
- יב. אם  $\alpha \Rightarrow \beta \rightarrow \gamma$ , אז  $\alpha \vee \beta \models \gamma$ .

9 עבור  $\alpha$ , פסוק אטומי או מורכב, נגדיר את הקבוצה  $F_\alpha = \{\gamma \mid \alpha \Rightarrow \gamma\}$ .

כלומר,  $F_\alpha$  היא קבוצת כל הפסוקים שנובעים טאוטולוגית מהפסוק  $\alpha$ .

הוכיחו כי  $\alpha \equiv \beta$  אם ורק אם  $F_\alpha = F_\beta$ .

10 הוכיחו כי ההנחה  $A$  גוררת טאוטולוגית את המסקנה  $\neg(\neg A)$ ,

בעזרת כללי ההיסק הבאים:

$$1. \Rightarrow p \rightarrow p$$

$$2. p \Rightarrow q \rightarrow p$$

$$3. p \rightarrow q, p \rightarrow (\neg q) \Rightarrow \neg p$$

11) הוכיחו שההנחות הבאות גוררות טאוטולוגית את המסקנה  $A$

$$B \vee D$$

$$C \rightarrow B$$

$$D \rightarrow (A \vee C)$$

$$\neg B$$

מוותר להשתמש רק בכללי ההיסק הבאים:

$$P \Rightarrow Q \vee P$$

$$P \wedge Q \Rightarrow P$$

$$P \wedge Q \Rightarrow Q$$

$$P \rightarrow Q, Q \rightarrow R \Rightarrow P \rightarrow R$$

$$P, P \rightarrow Q \Rightarrow Q$$

$$\neg P, P \vee Q \Rightarrow Q$$

$$P \Rightarrow \neg \neg P$$

$$P \rightarrow Q \Rightarrow \neg Q \rightarrow \neg P$$

## קבוצת קשרים שלמה

## שאלות

1) הביעו את הקשרים הבאים:

- א. קשר הגרירה בעזרת קבוצת הקשרים  $\{\wedge, \neg\}$ .
- ב. קשר ה- $\vee$  בעזרת קבוצת הקשרים  $\{\wedge, \neg\}$ .
- ג. קשר ה- $\oplus$  (XOR) בעזרת קבוצת הקשרים  $\{\wedge, \neg\}$ .
- ד. קשר ה- $\leftrightarrow$  בעזרת קבוצת הקשרים  $\{\wedge, \neg\}$ .
- ה. קשר הגרירה בעזרת קבוצת הקשרים  $\{\vee, \neg\}$ .
- ו. הקשר  $\wedge$  בעזרת קבוצת הקשרים  $\{\vee, \neg\}$ .
- ז. קשר ה- $\oplus$  (XOR) בעזרת קבוצת הקשרים  $\{\vee, \neg\}$ .
- ח. קשר ה- $\leftrightarrow$  בעזרת קבוצת הקשרים  $\{\vee, \neg\}$ .
- ט. הוכיחו כי הקבוצה  $\{\downarrow\}$  היא קבוצת קשרים שלמה.
- י. נתון  $f$  קשר טרינארי המוגדר כך:  $f(x, y, z) = x \rightarrow \neg(y \rightarrow z)$ . הוכיחו כי  $\{f\}$  היא קבוצת קשרים שלמה.
- יא. הביעו את הקשר  $f(x, y, z) = x \rightarrow \neg(y \rightarrow z)$  באמצעות  $\downarrow$  בלבד.
- יב. הביעו את הקשר  $\downarrow$  באמצעות  $f(x, y, z) = x \rightarrow \neg(y \rightarrow z)$  בלבד.

## צורות נורמליות

### שאלות

1) בסעיפים הבאים רשמו צורה דיסיונקטיבית-נורמלית (DNF) וצורה קוניונקטיבית-נורמלית (CNF) של הפסוקים:

א.  $p \rightarrow q$

ב.  $(p \vee q) \wedge \neg r$

ג.  $(p \rightarrow q) \rightarrow (r \rightarrow \neg q)$

## תחשיב הפרדיקטים

### שאלות

1 לכל אחת מהטענות הבאות קבעו האם היא נכונה ורשמו את שלילתה ללא שימוש בקשר השלילה. במקרה שהטענה נכונה נמקו זאת, ובמקרה שהטענה אינה נכונה הביאו דוגמה נגדית.

א.  $\forall x \in \mathbb{N} (\exists y \in \mathbb{N} (x < y))$

ב.  $\forall x \in \mathbb{N} (\exists y \in \mathbb{N} (x > y))$

ג.  $\forall x, y \in \mathbb{R} (x > y) \rightarrow \exists z \in \mathbb{R} (x > y + z)$

ד.  $\forall x \in \mathbb{R} (x > 0) \rightarrow (\exists n \in \mathbb{N} (x > \frac{1}{n}))$

ה.  $\forall x \in \mathbb{R} (x \neq 0 \rightarrow \forall y \in \mathbb{Z} \exists z \in \mathbb{R} (xz = y))$

ו.  $\forall x \in \mathbb{N} (x \geq 1 \rightarrow \forall y \in \mathbb{N} \exists z \in \mathbb{N} (xz = y))$

ז.  $\forall x \in \mathbb{R} (x > 0 \rightarrow \exists y \in \mathbb{N} (xy > 1))$

ח.  $\forall x \in \mathbb{R} \forall y \in \mathbb{R} (xy = x \wedge x + y < 5) \rightarrow y < 4\frac{1}{2}$

ט.  $\forall x \in \mathbb{R} ((x > 0) \rightarrow \forall y \in \mathbb{R} (\exists n \in \mathbb{N} (nx > y)))$

2 הוכיחו או הפריכו כל אחת מהטענות הבאות, ורשמו את השלילה של כל טענה, כאשר הקשר  $\neg$  מופיע רק לצד פרדיקטים. במקרה של הפרכה הדגימו עולם דיון מתאים עבורו הטענה לא מתקיימת, והסבירו מדוע הטענה לא מתקיימת.

א.  $\forall x P(x) \rightarrow \exists x P(x)$

ב.  $\exists x P(x) \rightarrow \forall x P(x)$

ג.  $(\forall x (P(x) \wedge Q(x))) \rightarrow (\forall x P(x) \wedge \forall x Q(x))$

ד.  $(\forall x P(x) \wedge \forall x Q(x)) \rightarrow (\forall x (P(x) \wedge Q(x)))$

ה.  $(\forall x (P(x) \vee Q(x))) \rightarrow (\forall x P(x) \vee \forall x Q(x))$

ו.  $(\forall x P(x) \vee \forall x Q(x)) \rightarrow (\forall x (P(x) \vee Q(x)))$

ז.  $(\exists x (P(x) \wedge Q(x))) \rightarrow (\exists x P(x) \wedge \exists x Q(x))$

ח.  $(\exists x P(x) \wedge \exists x Q(x)) \rightarrow (\exists x (P(x) \wedge Q(x)))$

ט.  $(\exists x (P(x) \vee Q(x))) \rightarrow (\exists x P(x) \vee \exists x Q(x))$

י.  $(\exists x P(x) \vee \exists x Q(x)) \rightarrow (\exists x (P(x) \vee Q(x)))$

$$P(x): x^2 - 8x + 15 = 0$$

$$Q(x): x \text{ is odd}$$

$$R(x): x > 0$$

$$L(x): x^2 + 2x + 2 = 0$$

(3) בעולם הדין  $\mathbb{Z}$ , נסמן

הוכיחו או הפריכו כל אחת מהטענות הבאות:

א.  $\forall x [P(x) \rightarrow Q(x)]$

ב.  $\forall x [Q(x) \rightarrow P(x)]$

ג.  $\exists x [P(x) \rightarrow Q(x)]$

ד.  $\exists x [Q(x) \rightarrow P(x)]$

ה.  $\forall x [L(x) \rightarrow Q(x)]$

ו.  $\exists x [L(x) \rightarrow Q(x)]$

ז.  $\exists x [R(x) \rightarrow P(x)]$

ח.  $\forall x (\neg Q(x) \rightarrow \neg P(x))$

ט.  $\forall x [(P(x) \vee Q(x)) \rightarrow R(x)]$

י.  $\exists x [P(x) \rightarrow (Q(x) \wedge R(x))]$

יא.  $\forall x [P(x) \rightarrow (Q(x) \wedge R(x))]$

נפנה עתה למספר שאלות בהצרנות. מותר להשתמש בסימני המשתנים  $x, y, z$ , סימני הקבוצה  $A, B, C, \dots, \mathbb{N}, \mathbb{Z}, \mathbb{Q}, \mathbb{R}$ , סוגריים, קשרים, כמתים, הפרדיקטים  $(, \exists, \forall, \wedge, \vee, \rightarrow, \leftrightarrow, >, <, \neq, =, \subseteq, \supseteq$ ), וכן סימנים נוספים הנתונים בגף השאלה.

**שימו לב: אסור להשתמש בקשר השלילה ואין להשתמש בסימן  $\notin$ .**

4) הצרינו כל אחת מהטענות הבאות:

- א. לכל מספר ממשי אין עוקב מידי (כלומר, שאין מספר ראשון מיד אחריו).
- ב. אין קבוצה שמכילה את כל הקבוצות (מותר להשתמש בסימן  $\notin$ ).
- ג. לכל מספר שאינו ראשוני יש לפחות שני מחלקים שונים.  
(מותר להשתמש ב- $P$  עבור קבוצת המספרים הראשוניים וב- $\notin$ )
- ד. למספר הטבעי הכי גדול אין מחלקים (ברור שאין, אבל צריך להצריך).
- ה. לא כל מספר טבעי הוא ראשוני.
- ו. כל קבוצה אינה שקולה לקבוצת החזקה שלה.
- ז. לכל שני מספרים טבעיים שונים יש מחלק משותף.
- ח. בכל קבוצה בת לפחות שלושה איברים שונים אין איבר מקסימלי.
- ט. לא בכל תת קבוצה של ממשיים יש איבר מינימלי.
- י. תהי פונקציה  $f: X \rightarrow Y$ .

נגדיר את הפונקציה  $G: P(X) \rightarrow P(Y)$  כך:  $G(B) = \{x \in X \mid f(x) \in B\}$

הצרינו את הטענה: אם  $f$  על אז  $G$  ח.ח.ע.

השתמשו רק בסימנים הבאים:

סימני המשתנים  $x, y, B, C$ , סימני הקבוצות  $X, Y$ , סימן הפונקציה  $f$ , סוגריים, קשרים, כמתים ופרדיקטים.  
שימו לב: אסור להשתמש בסימנים  $G$  ו- $P$ . יש להשתמש בהגדרותיהם כדי להחליפם בסימנים אחרים.

יא. לכל מספר ממשי יש לכל היותר שני מספרים ממשיים שונים זה מזה שריבועם שווה לו.

יב. הצרינו את הטענה: לכל פונקציה  $f: A \rightarrow B$  ולכל פונקציה  $g: B \rightarrow A$ , אם  $g \circ f = Id_A$ , אז  $f$  היא על.

מותר להשתמש בסימנים הבאים ורק בהם: סימני המשתנים  $x_1, x_2, \dots$

קשרים  $\rightarrow, \leftrightarrow, \wedge, \vee$ , והסימנים  $\exists, \forall, (, ), \in, A^B, B^A, f, g$ .

למען הסר ספק: אסור להשתמש ב- $d_A$  וב- $\circ$ .

יג. מספר ראשוני הוא מספר טבעי גדול מאחד שמחלקיו היחידים הם הוא עצמו ו-1. הצרינו את הטענה הבאה:

לכל מספר טבעי, בתחום שבין המספר עצמו לפעמיים המספר (כולל קצוות) יש לפחות מספר ראשוני אחד.

מותר להשתמש אך ורק בסימנים הבאים: סימני המשתנים  $x_1, x_2, \dots$

הקשרים  $\leftrightarrow, \Leftrightarrow, \wedge, \vee$  והסימנים  $\exists, \forall, (, \in, \mathbb{N}, \leq, 1, 2, 3, \dots, =, |$  פירושו מחלק.

יז. הצרינו את הטענה הבאה: בקבוצה  $A$  יש לכל היותר שני מספרים טבעיים.

השתמשו רק בסימנים הבאים: סימני המשתנים  $x, y, z$ , סימני הקבוצות  $A, \mathbb{N}$  וכן סוגריים, קשרים, כמתים, ופרדיקטים.

טו. הצרינו את הטענה: לא תמיד נכון שאם  $A \subseteq B$  אז  $A \sim B$ . מותר להשתמש רק בסימנים הבאים: סימני הקבוצות  $A, B$  (מותר לצרף אותם לקבוצה בחזקת קבוצה), סוגריים, קשרים, כמתים, ופרדיקטים. אין להשתמש בקשר השלילה.

טז. הצרינו את הטענה הבאה: קבוצת הפונקציות החח"ע מהממשיים לטבעיים אינה ריקה.

השתמשו רק בסימנים הבאים: סימני המשתנים  $x, y$ , סימני הקבוצות  $\mathbb{R}, \mathbb{N}$  (וצירופי חזקות שלהן), סימני הפונקציות  $f, g$ , סוגריים, קשרים, וכמתים:  $\exists, \forall, \wedge, \vee, \rightarrow, \leftrightarrow, (, \{, \}, \in, \neq, =$ .

יז. הצרינו את כלל הכפל של אי-שוויון ממשי (קטן או שווה) במספר ממשי שונה מאפס.

מותר להשתמש אך ורק בסימנים הבאים: סימני המשתנים  $x_1, x_2, \dots$ , הקשרים  $\leftrightarrow, \Leftrightarrow, \wedge, \vee$  והסימנים  $\forall, (, \in, \mathbb{R}, \leq, 0$ .

דוגמה לכלל הזה היא: מאי השוויון  $3.14 \leq \pi$  (על ידי כפל במינוס חצי) לקבל את אי השוויון  $-0.5\pi \leq -1.57$ .

$$(5) \quad \{x \in \mathbb{R} \mid \forall y \left[ (y \in \{t \in \mathbb{N} \mid t > 3\}) \rightarrow (y > x) \right]\}$$

כתבו אותה בצורה  $\{x \in \mathbb{R} \mid \dots\}$ , כך שבאגף ימין לא יופיע אף משתנה חוץ מ- $x$ .

(6) תארו במדויק את הקבוצה:

$$A = \left\{ x \in \mathbb{R} \mid \exists y \in \mathbb{N} (x = y^2) \rightarrow (x > 2) \right\} - \left\{ x \in \mathbb{R} \mid |x| > 1 \right\}$$

## תרגול בשיטות ההוכחה השונות

### שאלות

#### (1) הוכיחו:

- אם  $m, n \in \mathbb{Z}$  מספרים עוקבים, אז  $m+n$  אי-זוגי.
  - אם  $m, n \in \mathbb{Z}$  מספרים עוקבים, אז  $mn$  זוגי.
  - אם  $m, n \in \mathbb{Z}$  מספרים אי-זוגיים, אז  $m+n$  זוגי.
  - אם  $n \in \mathbb{N}$  אי-זוגי, אז קיימים  $m, k \in \mathbb{N}$  כך ש- $m^2 - k^2 = n$ .
- רמז: חפשו  $m, k \in \mathbb{N}$  עוקבים.
- אם  $a, b, c \in \mathbb{N}$  וגם  $a|b$  וגם  $a|c$  אז  $a|b+c$ .

#### (2) הוכיחו:

- קיימים אינסוף מספרים ראשוניים (נסו בצורה ישירה ועל דרך השלילה).
  - קיימים  $x, y \notin \mathbb{Q}$  כך ש- $x^y \in \mathbb{Q}$ .
  - יש אינסוף שלשות פיתגוריות.
- כלומר, יש אינסוף פתרונות בשלמים למשוואה  $x^2 + y^2 = z^2$ .
- לכל  $n \in \mathbb{N}$  קיים רצף של  $n$  מספרים טבעיים עוקבים, שאף אחד מהם אינו ראשוני.

#### (3) הוכיחו בדרך השלילה:

- שלא קיים טבעי הכי גדול.
- שלכל מספר טבעי קיים מספר טבעי גדול ממנו.
- $\sqrt{2} \notin \mathbb{Q}$ .
- שלא קיימים  $p, t \in \mathbb{Q}$  כך ש- $p-t \notin \mathbb{Q}$ .
- שלא קיימים  $p \in \mathbb{Q}, r \in \mathbb{R} - \mathbb{Q}$  כך ש- $p+r \in \mathbb{Q}$ .
- שלא קיים  $q \in \{x | 0 < x \in \mathbb{Q}\}$  כך ש- $q = \min \{x | 0 < x \in \mathbb{Q}\}$ .
- שלכל  $q \in \{x | 0 < x \in \mathbb{Q}\}$  מתקיים  $q \neq \min \{x | 0 < x \in \mathbb{Q}\}$ .

4 הוכיחו בקונטרה-פוזיציה :

- א. אם  $n \in \mathbb{N}$ , כך ש- $n^2$  זוגי, אז  $n$  זוגי.  
 ב. אם  $m, n \in \mathbb{Z}$  מספרים, כך ש- $m$  זוגי, אז  $n$  זוגי או  $m$  זוגי.  
 ג. אם  $m, n \in \mathbb{Z}$  מספרים, כך ש- $m$  אי-זוגי, אז  $n$  אי-זוגי וגם  $m$  אי-זוגי.  
 ד. אם  $x, y \in \mathbb{R}$ , כך ש- $x+y$  אי-רציונלי, אז לפחות אחד מהמספרים  $x, y$  הוא אי-רציונלי.  
 ה. אם  $A, B$  קבוצות ו- $x$  איבר, כך שמתקיים  $x \notin A \cap B$ , אז  $x \notin A$  או  $x \notin B$ .  
 ו. אם  $A, B$  קבוצות ו- $x$  איבר, כך שמתקיים  $x \notin A \cup B$ , אז  $x \notin A$  וגם  $x \notin B$ .  
 ז. אם  $A, B$  קבוצות ו- $x$  איבר, כך שמתקיים  $x \notin A$ , אז  $x \notin A \cap B$ .  
 ח. אם  $A - (B - C) \subseteq (A - B) - C$ , אז  $A \cap C = \emptyset$ .  
 ט. אם  $(A \cup B) - C \subseteq A - B$ , אז  $A(-C) \cap B = \emptyset$ .  
 י. אם  $P(A \cup B) = P(A) \cup P(B)$ , אז  $(A \subseteq B) \vee (B \subseteq A)$ .

5 ענו על הסעיפים הבאים :

- א. הוכיחו, תוך הפרדה למקרים, שאם  $z \in \mathbb{Z}$ , כך ש- $z$  לא מתחלק ב-3, אז  $z^2 = 1 \pmod{3}$ .  
 ב. הוכיחו או הפריכו:  
 אם  $z \in \mathbb{Z}$ , כך ש- $z$  לא מתחלק ב-4, אז  $z^2$  לא מתחלק ב-4.

6 הוכיחו בדרך השלילה :

- א. אם  $n \in \mathbb{N}$ , כך ש- $n \pmod{3} = 2$ , אז  $n$  הוא לא ריבוע של אף מספר טבעי.  
 ב. אם  $(A - C) \cup (C - B) \subseteq A \cap B$ , אז  $A \subseteq B$ .  
 ג. אם  $(C - A) \cup (B - C) \subseteq A - B$ , אז  $B \subseteq A$ .

# מבוא למתמטיקה דיסקרטית

פרק 2 - תורת הקבוצות

תוכן העניינים

15	1. מבוא לתורת הקבוצות
16	2. פעולות על קבוצות
18	3. דיאגרמת ון
20	4. קריאת קבוצות
22	5. שאלות הוכחה
24	6. דרך השלילה
25	7. קבוצת חזקה
27	8. מכפלה קרטזית

## מבוא לתורת הקבוצות

## שאלות

1) לגבי כל אחד מהממדים הבאים רשמו ב-□ את הסימן המתאים,  $\in, \notin, \subseteq, \subset, \supseteq, \supset, \neq$ . שימו לב שתיתכן יותר מתשובה אחת. אם התשובה היא  $\neq$ , נמקו.

א.  $1 \square \{1, \{1\}\}$       ב.  $\{1\} \square \{1, \{1\}\}$       ג.  $\{8, \emptyset\} \square \{1, 2, 8\}$

ד.  $\emptyset \square \{1, 2\}$       ה.  $\emptyset \square \{\emptyset, 1, 2\}$

ו.  $\{2\} \square \{\{1, \{2\}\}\}$       ז.  $\{2\} \square \{2, \{2, \{2\}\}\}$

ח.  $\{2\} \square \{2, \{2\}, \{\{2\}\}\}$       ט.  $\{2\} \square \{2, \{2, \{2\}\}, \{2\}\}$

י.  $\{\{2\}, \emptyset\} \square \{2, \{2\}, \{\{2\}\}\}$       יא.  $\emptyset \square \{1, \{\emptyset\}\}$

יב.  $\{\emptyset\} \square \{1, \{\emptyset\}\}$       יג.  $\{1, 2\} \square \{1, \{2\}\}$

יד.  $1 \square \mathbb{N}$       טו.  $\{1\} \square \mathbb{N}$

טז.  $1 \square \{\mathbb{N}\}$       יז.  $\{1\} \square \{\mathbb{N}\}$

## תשובות סופיות

1) א.  $\in$       ב.  $\in, \subseteq, \subset$       ג.  $\notin, \supseteq$       ד.  $\in, \subseteq, \subset$       ה.  $\in, \subseteq, \subset$   
 ו.  $\notin, \supseteq$       ז.  $\in, \subseteq, \subset$       ח.  $\in, \subseteq, \subset$       ט.  $\in, \subseteq, \subset$       י.  $\notin, \supseteq$   
 יא.  $\in, \subseteq, \subset$       יב.  $\in, \supseteq$       יג.  $\notin, \supseteq$       יד.  $\in, \notin$       טו.  $\in, \subseteq, \subset$   
 טז.  $\notin$       יז.  $\notin, \supseteq$

## פעולות על קבוצות

## שאלות

(1) עבור  $A = \{1, 2, 3\}$ ,  $B = \{3, 4, 5\}$ ,  $C = \{1, 4, 6\}$  חשבו את הקבוצות הבאות:

א.  $(A \cup C) \setminus B$

ב.  $(A \cap B) \cup C$

ג.  $A \cap (B \cup C)$

ד.  $P(A)$

ה.  $C \setminus A$

(2) עבור  $A = \{1, 2, 3\}$ ,  $B = \{3, 4, 5\}$ ,  $C = \{1, 4, 6\}$

א. האם  $B \subseteq C$ ?

ב. האם  $\{1\} \subseteq B$ ?

ג. האם  $\{1\} \subseteq A$ ?

ד. האם  $\{1\} \in P(A)$ ?

ה. האם  $\{1\} \subseteq P(A)$ ?

ו. האם  $\{\{1\}\} \subseteq P(A)$ ?

ז. האם  $\{\{1\}, \emptyset\} \subseteq P(A)$ ?

(3) עבור  $A = \{1, \{3, *\}, \emptyset\}$ ,  $B = \{4, \emptyset\}$  חשבו:

א.  $A \cup B$

ב.  $A \cap B$

ג.  $A - B$

ד.  $B - A$

ה.  $A \oplus B$

## תשובות סופיות

- (1) א.  $\{1, 2, 6\}$     ב.  $\{1, 3, 4, 6\}$     ג.  $\{1, 3\}$     ד.  $2 \notin P(A)$
- (2) א. לא.    ב. לא.    ג. כן.    ד. כן.
- ה. לא.    ו. כן.    ז. כן.
- (3) א.  $\{1, \{3, *\}, \emptyset, 4\}$     ב.  $\{\emptyset\}$     ג.  $\{1, \{3, *\}\}$     ד.  $\{4\}$
- ה.  $(A \setminus B) \cup (B \setminus A)$

## דיאגרמת ון

### שאלות

1) באיור שלהלן דיאגרמת ון.



קווקוו את השטח המתאר את הקבוצות הבאות:

- |                        |                                     |
|------------------------|-------------------------------------|
| א. $(A - B) - C$       | ב. $A - (B - C)$                    |
| ג. $A \cap B^c$        | ד. $(A \cap B^c) \cup (C \cap A^c)$ |
| ה. $(A \cap B) \cap C$ | ו. $A \cap (B \cap C)$              |
| ז. $(A \cup B) \cup C$ | ח. $A \cup (B \cup C)$              |

**תשובות סופיות**

1 א.



ב.



ג.



ד.



ה.



ו.



ז.



ח.



## קריאת קבוצות

### שאלות

(1) עבור  $\mathbb{N} = \{1, 2, 3, \dots\}$ , רשמו בשתי דרכים את הקבוצות הבאות:

א. קבוצת המספרים טבעיים האי זוגיים,  $\mathbb{N}_{odd} = \{1, 3, 5, \dots\}$ .

ב. קבוצת כל הטבעיים שיש להם שורש ריבועי,  $A = \{1, 4, 9, 16, 25, 36, 49, \dots\}$ .

ג. קבוצת כל הטבעיים שאין להם שורש ריבועי,

$B = \{2, 3, 5, 6, 7, 8, 10, 11, 12, 13, 14, 15, 17, 18, \dots\}$ .

ד. קבוצת כל השורשים של מספרים טבעיים,

$C = \{\sqrt{1}, \sqrt{2}, \sqrt{3}, \sqrt{4}, \sqrt{5}, \sqrt{6}, \sqrt{7}, \dots\}$ .

ה. קבוצת כל החזקות של 2,

$D = \{2^1, 2^2, 2^3, \dots\} = \{2, 4, 8, 16, 32, \dots\}$ .

(2) עבור  $\mathbb{N} = \{1, 2, 3, \dots\}$ , חשבו את הקבוצות הבאות:

א.  $C = \{3n - 1 \mid n \in \mathbb{N}\}$ .

ב.  $K = \{x \in \mathbb{Z} \mid |x| \geq 2 \rightarrow x^2 > 41\}$ .

ג.  $C = \{x \in \mathbb{Z} \mid |x| \geq 7 \rightarrow x < 20\}$ .

ד.  $C = \{3n - 1 \mid n \in \mathbb{N} \wedge \sqrt{n} \in \mathbb{N}\} = \{3n - 1 \mid \sqrt{n} \in \mathbb{N}\}$ .

ה.  $C = \{x \in \mathbb{Z} \mid x \geq 8 \rightarrow x^2 < 67\}$ .

## תשובות סופיות

- (1) א. דרך 1:  $\left\{n \in \mathbb{N} \mid \frac{n+1}{2} \in \mathbb{N}\right\}$ , דרך 2:  $\{2n-1 \mid n \in \mathbb{N}\}$ .
- ב. דרך 1:  $\{n \in \mathbb{N} \mid \sqrt{n} \in \mathbb{N}\}$ , דרך 2:  $\{n^2 \mid n \in \mathbb{N}\}$ .
- ג. דרך 1:  $\{n \in \mathbb{N} \mid \sqrt{n} \notin \mathbb{N}\}$ , דרך 2:  $\{n \mid n \in \mathbb{N} \wedge \forall k \in \mathbb{N} n \neq k^2\}$ .
- ד. דרך 2:  $\{\sqrt{n} \mid n \in \mathbb{N}\}$ .
- ה. דרך 1:  $\{n \in \mathbb{N} \mid \exists k \in \mathbb{N} n = 2^k\}$ , דרך 2:  $\{2^n \mid n \in \mathbb{N}\}$ .
- (2) א.  $C = \{2, 5, 8, 11, 14, 17, 20, \dots\}$
- ב.  $\mathbb{Z} - \{\pm 2, \pm 3, \pm 4, \pm 5, \pm 6, \dots\}$
- ג.  $\mathbb{Z} - \{20, 21, 22, 23, \dots\}$
- ד.  $\{2, 11, 26, 74, 107, 146, \dots\}$
- ה.  $\mathbb{Z} - \{9, 10, 11, 12, \dots\}$

## שאלות הוכחה

## שאלות

בכל אחת משאלות הפרק יש לפעול כפי שמתואר בשאלה 1.

(1) תהיינה  $A, B$  קבוצות.

אם הטענה נכונה, ציינו זאת ותנו נימוק קצר מדוע.  
אם הטענה אינה נכונה, ציינו זאת, ותנו דוגמה נגדית.  
יש ערך רב יותר לדוגמה מינימלית; בדקו האם בדוגמה הנגדית יש פרטים מיותרים והסירו אותם.  
אם טענות יב-כא נכונות, נסו להוכיחן, ובמיוחד את טענה יב, שבה נשתמש יותר מאוחר להוכחת תכונות של קבוצת חזקה.

א. אם  $x \notin A$ , אז  $x \notin A \cup B$ .

ב. אם  $x \notin A \cup B$ , אז  $x \notin A$ .

ג. אם  $x \notin A$ , אז  $x \notin A \cap B$ .

ד. אם  $x \notin A \cap B$ , אז  $x \notin A$ .

ה. אם  $x \notin A$ , אז  $x \notin A - B$ .

ו. אם  $x \notin A - B$ , אז  $x \notin A$ .

ז. אם  $x \in B$ , אז  $x \notin A - B$ .

ח. אם  $x \notin A - B$ , אז  $x \in B$ .

ט.  $x \notin A \Leftrightarrow x \notin A - B$

י.  $x \in B \Leftrightarrow x \notin A - B$

יא. השלימו:  $x \notin A - B \Leftrightarrow \underline{\hspace{2cm}}$ .

יב.  $(A \subseteq B \wedge A \subseteq C) \Leftrightarrow A \subseteq B \cap C$

יג.  $(A \subseteq B \vee A \subseteq C) \Leftrightarrow A \subseteq B \cup C$

יד. אם  $A = A \cup B$ , אז  $A \subseteq B$ .

טו. אם  $A = A \cup B$ , אז  $B \subseteq A$ .

טז. אם  $A = A \cap B$ , אז  $A \subseteq B$ .

יז. אם  $A = A \cap B$ , אז  $B \subseteq A$ .

יח. אם  $A \subseteq B$ , אז  $A = A \cup B$ .

יט. אם  $B \subseteq A$ , אז  $A = A \cup B$ .

כ. אם  $A \subseteq B$ , אז  $A = A \cap B$ .

כא. אם  $B \subseteq A$ , אז  $A = A \cap B$ .

(2) תהיינה  $A, B, C$  קבוצות.

הוכיחו או הפריכו את הטענות הבאות:

א. אם  $A = A - B$ , אז  $B = \emptyset$ .

ב. אם  $A = A - B$ , אז  $A \cap B = \emptyset$ .

ג. אם  $A = A \cup B$ , אז  $A \cap B = B$ .

ד. אם  $B = A \cup B$ , אז  $A \cap B = B$ .

ה. אם  $A \cap B = A$ , אז  $A = A \cup B$ .

ו. אם  $A \cap B = B$ , אז  $A = A \cup B$ .

ז. אם  $A \cup B = A \cup C$  וגם  $A \cap B = A \cap C$  אז  $B = C$ .

ח.  $A \cup (B - C) = (A \cup B) - C$ .

ט.  $A \cup (B - C) = (A \cup B) - (A \cap C)$ .

י.  $(A \cup B) \cap C = A \cup (B \cap C)$ .

יא.  $(A \setminus B) \setminus C = A \setminus (B \cup C)$ .

יב.  $A \cap (B \Delta C) = (A \cap B) \Delta (A \cap C)$ .

יג.  $(A - B) \cap (C - D) = (A \cap C) - (B \cup D)$ .

יד. להלן שתי טענות. הוכיחו את הנכונה והפריכו את השגויה:

1.  $A \cap B \cap C \subseteq A \oplus B \oplus C$

2.  $A \oplus B \oplus C \subseteq A \cap B \cap C$

## תשובות סופיות

- (1) א. לא נכונה. ב. נכונה. ג. נכונה. ד. לא נכונה. ה. נכונה.  
ו. לא נכונה. ז. נכונה. ח. לא נכונה. ט. לא נכונה. י. לא נכונה.  
יא.  $x \in B \vee x \notin A$  יב. נכונה. יג. לא נכונה. יד. לא נכונה.  
טו. נכונה. טז. נכונה. יז. לא נכונה. יח. לא נכונה. יט. נכונה.  
כ. נכונה. כא. לא נכונה.
- (2) א. לא נכונה. ב. לא נכונה. ג. נכונה. ד. לא נכונה. ה. לא נכונה.  
ו. נכונה. ז. נכונה. ח. לא נכונה. ט. לא נכונה. י. לא נכונה.  
יא. נכונה. יב. נכונה. יג. נכונה. יד. 1. נכונה. 2. לא נכונה.

## דרך השלילה

### שאלות

הוכיחו כל אחת מהטענות הבאות בדרך השלילה. במקום הטענה אם  $\alpha$ , או  $\beta$ , נוכיח אם  $\neg\beta$ , או  $\neg\alpha$ .

יש לזכור תמיד שלהנחת השלילה  $\neg\beta$  ולכל הנובע ממנה מתייחסים כנתון.

$$(1) \text{ אם } A \cap C = \emptyset, \text{ אז } A - (B - C) \subseteq (A - B) - C$$

$$(2) \text{ אם } A \subseteq B, \text{ אז } (A - C) \cup (C - B) \subseteq A \cap B$$

$$(3) \text{ אם } (A - C) \cap B = \emptyset, \text{ אז } (A \cup B) - C \subseteq A - B$$

$$(4) \text{ אם } B \subseteq A, \text{ אז } (C - A) \cup (B - C) \subseteq A - B$$

$$(5) \text{ אם } A \subseteq A \Delta B \text{ וגם } B - C = B \Delta C, \text{ אז } A \cap C = \emptyset$$

$$(6) \text{ אם } A \subseteq A \oplus B \text{ וגם } B - C = B \oplus C, \text{ אז } A \cap C = \emptyset$$

### תשובות סופיות

(1) הוכחה.

(2) הוכחה.

(3) הוכחה.

(4) הוכחה.

(5) הוכחה.

(6) הוכחה.

## קבוצת חזקה

### שאלות

(1) עבור  $A = \{3, \{\emptyset\}\}$ ,  $B = \{\{3\}, \{4, \emptyset\}\}$ ,  $C = \{3, \{3\}, \{\emptyset, 3\}\}$   
 רשמו את הקבוצות הבאות:

א. את  $P(C)$ ,  $P(B)$  ואת  $P(A)$ .

ב.  $P(A) \cap B$ ,  $P(A) \cap A$ ,  $P(C) \cap C$  ואת  $C - P(C)$ .

(2) עבור הקבוצות  $A = \{\emptyset, \{\emptyset\}\}$ ,  $B = \{1, \emptyset\}$

א. רשמו את  $P(A)$  ואת  $P(B)$ .

ב. רשמו את  $P(A) - P(B)$  ואת  $P(B) - P(A)$ .

ג.  $P(A) - A$  ואת  $P(A) - \{A\}$ .

(3) רשמו את  $P(\emptyset)$ , את  $P(P(\emptyset))$  ואת  $P(P(P(\emptyset)))$ .

(4) תהיינה  $A, B$  שתי קבוצות. הוכיחו או הפריכו:

א.  $P(A \cup B) = P(A) \cup P(B)$

ב.  $P(A) \cup P(B) \subseteq P(A \cup B)$

ג.  $P(A \cap B) = P(A) \cap P(B)$

ד.  $P(A) \cap A \neq \emptyset$

ה.  $P(A) \cap A = \emptyset$

ו. תנו דוגמה לקבוצה  $A$  שמקיימת  $A \cap P(A) \cap P(P(A)) \neq \emptyset$ .

ז. אם  $\{A\} \subseteq P(B)$ , אז  $P(A) \subseteq P(B)$ .

את שתי הטענות הבאות הוכיחו בדרך השלילה:

ח. אם  $P(A) \subseteq P(A - B)$ , אז  $A \cap B = \emptyset$ .

ט. אם  $P(A \cup B) = P(A) \cup P(B)$ , אז  $(A \subseteq B) \vee (B \subseteq A)$  (שאלה קשה).

(5) תהיינה  $A, B, C$  קבוצות כלשהן, ונתון  $P(B) - P(A) = P(B) - \{\emptyset\}$ .

הוכיחו כי  $B - A = B$ .

## תשובות סופיות

- (1) א.  $P(B) = \{\emptyset, \{\{3\}\}, \{\{4, \emptyset\}\}, \{\{3, \{4, \emptyset\}\}\}$  ,  $P(A) = \{\emptyset, \{3\}, \{\{\emptyset\}\}, \{3, \{\emptyset\}\}$   
 .  $P(C) = \{\emptyset, \{3\}, \{\{3\}\}, \{\{\emptyset, 3\}\}, \{3, \{3\}\}, \{3, \{\emptyset, 3\}\}, \{\{3\}, \{\emptyset, 3\}\}, \{3, \{3\}, \{\emptyset, 3\}\}$   
 ב.  $C - P(C) = \{3, \{\emptyset, 3\}\}$  ,  $P(C) \cap C = \{\{3\}\}$  ,  $P(A) \cap A = \emptyset$  ,  $P(A) \cap B = \{\{3\}\}$
- (2) א.  $P(B) = \{\emptyset, \{1\}, \{\emptyset\}, \{1, \emptyset\}\}$  ,  $P(A) = \{\emptyset, \{\emptyset\}, \{\{\emptyset\}\}, \{\emptyset, \{\emptyset\}\}\}$   
 ב.  $P(B) - P(A) = \{\{1\}, \{1, \emptyset\}\}$  ,  $P(A) - P(B) = \{\{\{\emptyset\}\}, \{\emptyset, \{\emptyset\}\}\}$   
 ג.  $P(A) - \{A\} = \{\emptyset, \{\emptyset\}, \{\{\emptyset\}\}\}$  ,  $P(A) - A = \{\{\{\emptyset\}\}, \{\emptyset, \{\emptyset\}\}\}$
- (3) .  $P(P(P(\emptyset))) = \{\emptyset, \{\emptyset\}, \{\{\emptyset\}\}, \{\emptyset, \{\emptyset\}\}\}$  ,  $P(P(\emptyset)) = \{\emptyset, \{\emptyset\}\}$  ,  $P(\emptyset) = \{\emptyset\}$
- (4) א. לא נכונה. ב. נכונה. ג. נכונה. ד. לא נכונה. ה. לא נכונה.  
 ו. ראו סרטון. ז. נכונה. ח. הוכחה. ט. הוכחה.
- (5) הוכחה.

## מכפלה קרטזית

### שאלות

(1) תהיינה  $A, B, C$  קבוצות. הוכיחו:

א.  $(A = B) \Leftrightarrow (A \times A = B \times B)$

ב.  $((B = \emptyset) \vee (A = \emptyset) \vee (A = B)) \Leftrightarrow (A \times B = B \times A)$

ג. הוכיחו כי לכל ארבע קבוצות  $A, B, C, D$  מתקיים

$$(A \cup B) \times C = (A \times C) \cup (B \times C)$$

ד. אם  $((A \times A) \cup (B \times B) = (C \times C))$ , אז

$$(((B \subseteq A) \vee (A \subseteq B)) \wedge (A \cup B \subseteq C))$$

ה. הוכיחו כי לכל ארבע קבוצות  $A, B, C, D$  מתקיים

$$(A \cap B) \times (C \cap D) = (A \times C) \cap (B \times D)$$

(2) הוכיחו או הפריכו:

תהיינה  $A, B$  שתי קבוצות כלשהן ותהי  $S \subseteq A \times B$ .

אז קיימות  $C \subseteq A$  ו- $D \subseteq B$ , כך ש- $S = C \times D$ .

(3) הוכיחו או הפריכו:

קיימות שתי קבוצות  $A, B$ , כך ש- $|A \times B| = 24$  וגם  $|A \cap B| = 5$  (סימן  $||$  על קבוצה מסמן את מספר אבריה).

(4) הוכיחו או הפריכו:

לכל שלוש קבוצות  $A, B, C$  מתקיים  $A \times (B \oplus C) = (A \times B) \oplus (A \times C)$ .

(5) הדגימו שלוש קבוצות  $A, B, C$ , כך ש- $(A \times (B \times C)) \cap ((A \times B) \times C) \neq \emptyset$ .

**תשובות סופיות**

- (1) א. הוכחה. ב. הוכחה. ג. הוכחה. ד. הוכחה. ה. הוכחה.
- (2) לא נכונה.
- (3) לא נכונה.
- (4) נכונה.
- (5) ראו סרטון.

# מבוא למתמטיקה דיסקרטית

פרק 3 - פונקציות

תוכן העניינים

- 1. מבוא והגדרות ראשונות ..... 29
- 2. תמונה של קבוצה ..... 34
- 3. הרכבת פונקציות והפונקציה ההפוכה ..... 38

## מבוא לפונקציות:

## שאלות:

אופציה	תיאור	אופציה	תיאור

- (1) בכל אחד מהאיורים הבאים זהה את התחום ואת הטווח ובחר את האפשרות המתאימה:
- זו אינה פונקציה.
  - זו פונקציה חח"ע שאינה על.
  - זו פונקציה על שאינה חח"ע.
  - זו פונקציה שאינה חח"ע ואינה על.
  - זו פונקציה שהיא גם חח"ע וגם על.

- (2) עבור הפונקציה  $g: \mathbb{R} \rightarrow \mathbb{R}$  מוגדרת ע"י  $g(x) = \lfloor x \rfloor$  (ערך שלם תחתון של  $x$ ). חשב את:

א.  $g(\pi), g(-\pi)$

ב.  $\text{Im}(g)$

ג. מצא מקור ל-7.

ד. מצא את כל המקורות ל-7.

ה. האם כל איבר בטווח הוא גם תמונה?

- (3) עבור כל אחת מהפונקציות הבאות, קבע האם היא חח"ע? האם על? הוכח טענותיך.

א. פונקציית הזהות  $I_A: A \rightarrow A$  המוגדרת ע"י  $I_A(x) = x$ .

ב.  $h_1: \mathbb{R} \rightarrow \mathbb{R}$  מוגדרת ע"י  $h_1(x) = 2x + 1$ .

ג.  $h_2: \mathbb{R} \rightarrow \mathbb{R}$  מוגדרת ע"י  $g(x) = \lfloor x \rfloor$  (ערך שלם תחתון של  $x$ ).

ד.  $h_3: \mathbb{N} \times \mathbb{N} \rightarrow \mathbb{Z}$  מוגדרת ע"י  $h_3(x, y) = x - y$ .

ה.  $h_4: P(\mathbb{N}) \times P(\mathbb{N}) \rightarrow P(\mathbb{N})$  מוגדרת ע"י  $h_4(A, B) = A \cup B$  וחשב את  $\text{Im} h_4$ .

ו.  $f_1: (0, \infty) \rightarrow (0, 2)$  מוגדרת ע"י  $f_1(x) = \frac{2x}{x+3}$ .

- ז.  $f_2: (0, \infty) \rightarrow (0, \infty)$  מוגדרת ע"י  $f_2(x) = x + \frac{1}{x}$ .
- ח.  $f_3: (0, \infty) \rightarrow \mathbb{R}$  מוגדרת ע"י  $f_3(x) = x - \frac{1}{x}$ .
- ט.  $f_4: P(\mathbb{R}) \rightarrow P(\mathbb{R})$  מוגדרת ע"י  $f_4(X) = X \cap \mathbb{Z}$ .
- י.  $f_5: P(\mathbb{R}) \rightarrow P(\mathbb{Z})$  מוגדרת ע"י  $f_5(X) = X \cap \mathbb{Z}$ .
- יא.  $f_6: P(\mathbb{R}) \rightarrow P(\mathbb{R})$  מוגדרת ע"י  $f_6(X) = X \Delta \mathbb{Z}$ .
- יב.  $f_7: \mathbb{N} \rightarrow \mathbb{N}$  מוגדרת ע"י  $f_7(n) = \text{the sum of the digits of } n$ .
- יג.  $f_8: \mathbb{Z} \times \mathbb{Z} \rightarrow \mathbb{Z}$  מוגדרת ע"י  $f_8(\langle x, y \rangle) = 3x + 2y$ .
- יד.  $f_9: \mathbb{N} \times \mathbb{N} \rightarrow \mathbb{N}$  מוגדרת ע"י  $f_9(\langle n, k \rangle) = 2^{n-1}(2k-1)$ .
- טו.  $h: \mathbb{N} \rightarrow \mathbb{N}$  מוגדרת ע"י  $h(n) = \begin{cases} \frac{n}{2} & n \in \mathbb{N}_{\text{even}} \\ n+3 & n \in \mathbb{N}_{\text{odd}} \end{cases} = \begin{cases} \frac{n}{2} & n \in \mathbb{N}_{\text{even}} \\ n+3 & \text{else} \end{cases}$ .

4) בדוק אם הפונקציות הבאות חח"ע, על וחשב את תמונתן:

- א.  $f_9: \mathbb{N} \rightarrow \mathbb{N}$  מוגדרת ע"י  $f_9(x) = \begin{cases} \frac{n}{2} & 4|n \\ 2n+1 & \text{else} \end{cases}$  וחשב את  $Im f_9$ .
- ב.  $f_{10}: \mathbb{R} \rightarrow \mathbb{R}$  מוגדרת ע"י  $f_{10}(x) = \begin{cases} 3x-1 & x < 2 \\ x-3 & x \geq 2 \end{cases}$  וחשב את  $Im f_{10}$ .
- ג.  $f_{11}: \mathbb{R} \rightarrow \mathbb{R}$  מוגדרת ע"י  $f_{11}(x) = \begin{cases} x+1 & x \leq 1 \\ \frac{1}{2}x + \frac{3}{2} & x > 1 \end{cases}$ .

5) תהינה  $f, g: A \rightarrow A$  פונקציה. הוכח או הפרך כל אחת מהטענות הבאות:

- א. אם לכל איבר ב- $Im(f)$  יש מקור יחיד אז  $f$  חח"ע.
- ב. אם לכל איבר ב- $Im(f)$  יש מקור יחיד אז  $f$  על.
- ג. אם לכל איבר ב- $Im(f)$  יש מקור יחיד אז  $f$  אינה קבועה.
- ד. אם יש איבר ב- $Im(f)$  ללא מקור אז  $f$  על.
- ה. אם  $Im(f) \subset Im(g)$  (הכלה ממש) אז  $f$  אינה על.
- ו. אם  $Im(f) \subset Im(g)$  (הכלה ממש) אז  $g$  אינה על.
- ז. אם  $Im(f) = Im(g)$  אז  $f = g$ .
- ח. לכל  $D \neq \emptyset, D \subseteq A$  קיימת  $f: A \rightarrow A$  כך ש- $Im(f) = D$ .

6 נתונה  $g: \mathbb{N}_{odd} \rightarrow \mathbb{N}$  פונקציה לא ידועה.

$$נגדיר  $h: \mathbb{N} \rightarrow \mathbb{N}$  באופן הבא: 
$$h(n) = \begin{cases} \frac{n}{2} & n \in \mathbb{N}_{even} \\ g(n) & n \in \mathbb{N}_{odd} \end{cases}$$$$

למשל:  $h(34) = 17$ ,  $h(35) = g(35)$  שהוא מספר טבעי לא ידוע. הוכח כי  $h$  אינה חח"ע.

מצא אינסוף מספרים טבעיים שונים  $\{x_n\}_{n=1}^{\infty}$  כך שלכל  $i \neq j$  מתקיים  $h(x_i) = h(x_j)$ .

7 נגדיר  $F: (\mathbb{R}^{\mathbb{R}} \times P(\mathbb{R})) \rightarrow P(\mathbb{R})$  באופן הבא:  $F((f, A)) = \{x \in \mathbb{R} \mid \exists y \in A \ f(y) = x\}$

א. עבור  $A = \{2, 3, 4, 5, 17, 18\}$ ,  $g(x) = 2x$ , חשב:  $F((g, A))$ .

ב. בדוק האם  $f$  חח"ע והאם על.

ג. מצא את  $\text{Im}(F)$ .

8 נגדיר  $G: \mathbb{N}^{\mathbb{N}} \rightarrow P(\mathbb{N})$  באופן הבא:  $G(f) = \{\alpha \in \mathbb{N} \mid \exists \beta \in \mathbb{N} \ f(\beta) = \alpha\}$

א. חשב  $G(f)$  עבור  $f = I_{\mathbb{N}}$  פונקציית הזהות  $\mathbb{N}$  עבור

$$f(n) = \begin{cases} 1 & n \in \mathbb{N}_{even} \\ 4 & \text{else} \end{cases}$$

ועבור הפונקציה הקבועה 3.

ב. בדוק האם  $G$  חח"ע והאם על ומצא את  $\text{Im}(G)$ .

9 נגדיר פונקציה  $F: \{0, 1\}^{\mathbb{N}} \rightarrow P(\{0, 1\} \times \{0, 1\})$  באופן הבא:

$$F(g) = \{(g(n), g(n+1)) \mid n \in \mathbb{N}\}$$

הוכח כי  $F$  אינה על.

10 נגדיר  $F: \mathbb{N}^{\mathbb{R}} \rightarrow P(\mathbb{N})$  באופן הבא:  $F(f) = \{n \in \mathbb{R} \mid f(x) = 1\}$

הוכח כי  $F$  אינה חח"ע.

11 נגדיר פונקציה  $F: \{0, 1, 2\}^{\mathbb{N}} \rightarrow P(\mathbb{N})$  באופן הבא:  $F(f) = \{n \in \mathbb{N} \mid f(n) = 0\}$

קבע האם  $F$  חח"ע ועל.

**12** תהי  $P_{\text{even}}(\mathbb{N})$  קבוצת כל תת הקבוצות של  $\mathbb{N}$  שמספר אבריהן זוגי. ותהי  $P_{\text{odd}}(\mathbb{N})$  קבוצת כל התת הקבוצות של  $\mathbb{N}$  שמספר אבריהן אי זוגי. לדוגמה  $\{1,3\} \in P_{\text{even}}(\mathbb{N}), \{1,3\} \notin P_{\text{odd}}(\mathbb{N})$ , ולעומת זאת,  $\{2,4,6\} \in P_{\text{odd}}(\mathbb{N}), \{2,4,6\} \notin P_{\text{even}}(\mathbb{N})$ . לכל קבוצה  $A$  סופית של טבעיים נסמן ב- $\max(A)$  את המספר הגדול ביותר ב- $A$  וב- $\max(\emptyset) = 0$ . הוכיחו כי הפונקציה  $f: P_{\text{even}}(\mathbb{N}) \rightarrow P_{\text{odd}}(\mathbb{N})$  המוגדרת על ידי  $f(A) = A \cup \max(A)$  היא חח"ע אך אינה על.

**13** נגדיר  $H: \mathbb{R}^{\mathbb{R}} \times \mathbb{R}^{\mathbb{R}} \rightarrow P(\mathbb{R})$  באופן הבא:  $H(\langle f, g \rangle) = \text{Im } f \Delta \text{Im } g$ . בדוק אם  $f$  חח"ע ועל.

### פונקציות שחובה להכיר:

- 14** בכל אחד מהסעיפים הבאים מצא פונקציה כנדרש:
- מצא  $f: (0,1) \rightarrow (1,\infty)$  שהיא חח"ע ועל.
  - השתמש בפונקציה שמצאת בסעיף קודם כדי למצוא  $f: (0,1) \rightarrow (0,\infty)$  שהיא חח"ע ועל.
  - מצא  $f: [2,5] \rightarrow [1,7]$  שהיא חח"ע ועל.
  - עבור  $a, b, c, d \in \mathbb{R}$  מספרים נתונים מצא  $f: [a,b] \rightarrow [c,d]$  שהיא חח"ע ועל.
  - מצא  $f: [1,3) \cup [4,8] \rightarrow [0,1]$  שהיא חח"ע ועל.
  - מצא פונקציה  $f: \mathbb{N} \rightarrow \mathbb{Z}$  שהיא חח"ע ועל. מצא גם  $g: \mathbb{Z} \rightarrow \mathbb{N}$  שהיא היפוך החיצים לפונקציה  $f: \mathbb{N} \rightarrow \mathbb{Z}$  שמצאת.
  - מצא פונקציה  $f: \mathbb{N} \times \mathbb{N} \rightarrow \mathbb{N}$  שהיא חח"ע ועל.
  - מצא פונקציה  $f: \mathbb{N} \times \mathbb{N} \times \mathbb{N} \rightarrow \mathbb{N}$  שהיא חח"ע.
  - מצא  $g: \mathbb{N} \rightarrow \mathbb{N} \times \mathbb{N} \times \mathbb{N}$  שהיא על. (רמז: סעיף קודם)
  - מצא פונקציה  $f: \underbrace{\mathbb{N} \times \mathbb{N} \times \mathbb{N} \times \dots \times \mathbb{N}}_7 \rightarrow \mathbb{N}$  (כלומר  $f: \mathbb{N}^7 \rightarrow \mathbb{N}$ ) שהיא חח"ע.
  - מצא פונקציה  $f: \mathbb{N} \times [0,1) \rightarrow [0,\infty)$  שהיא חח"ע ועל.
  - מצא גם  $g: [0,\infty) \rightarrow \mathbb{N} \times [0,1)$  שהיא היפוך החיצים לפונקציה שמצאת.
  - מצא פונקציה  $f: (0,1] \rightarrow (0,1)$  שהיא חח"ע ועל.
  - מצא  $F: [0,1) \times [0,1) \rightarrow [0,1)$  חח"ע ועל.
  - מצא פונקציה  $f: \mathbb{N} \times \{0,1\} \rightarrow \mathbb{N}$  שהיא חח"ע ועל.
  - מצא גם  $g: \mathbb{N} \rightarrow \mathbb{N} \times \{0,1\}$  שהיא היפוך החיצים לפונקציה שמצאת.

טו. מצא  $f: \mathbb{R} \rightarrow (-1, 1)$  שהיא חח"ע ועל.

טז. מצא  $F: \{0, 1\}^A \rightarrow P(A)$  חח"ע ועל. הוכח כי הפונקציה שמצאת היא אכן חח"ע ועל.

יז. מצא  $F: \{0, 1\}^{\mathbb{N}_{\text{even}}} \times \{0, 1\}^{\mathbb{N}_{\text{odd}}} \rightarrow \{0, 1\}^{\mathbb{N}}$  שהיא חח"ע ועל.

יח. מצא  $F: (\{0, 1\}^{\mathbb{N}})^2 \rightarrow \{0, 1, 2, 3\}^{\mathbb{N}}$  כלומר  $F: \{0, 1\}^{\mathbb{N}} \times \{0, 1\}^{\mathbb{N}} \rightarrow \{0, 1, 2, 3\}^{\mathbb{N}}$  שהיא חח"ע ועל והוכח שהיא חח"ע ועל.

## תמונה של קבוצה:

### רקע:

צפה בשיעורים בנושא תמונה ותמונה הפוכה של קבוצה בטרם תענה על השאלות שבנושא זה.

$$f(D) \subseteq \{x \mid x \in f(D)\} \Leftrightarrow \alpha \in D \Leftrightarrow f(\alpha) \in f(D) \quad (y)$$

$$f(\alpha) \in E \Leftrightarrow \alpha \in f^{-1}(E) \quad (z)$$

### שאלות:

(1) נגדיר  $g: \mathbb{N} \rightarrow \mathbb{N}$  מוגדרת ע"י:  $g(n) = 2n$  .  $K = \{1, 8, 17\}$

חשב את הקבוצות הבאות:

א.  $g(K)$

ב.  $g^{-1}(K)$

ג.  $g(\mathbb{N})$

ד.  $g(\mathbb{N}_{\text{even}})$

ה.  $g(\mathbb{N}_{\text{odd}})$

ו.  $g^{-1}(\mathbb{N}_{\text{even}})$

ז.  $g^{-1}(\mathbb{N}_{\text{odd}})$

(2) נגדיר  $f: \mathbb{R} \rightarrow \mathbb{R}$  מוגדרת ע"י:  $f(x) = x^2 - 5x + 4$  .  $M = \{0, 4\}$

נגדיר  $f: \mathbb{N} \rightarrow \mathbb{N}$  מוגדרת ע"י:  $f(n) = \begin{cases} 2n & n \in \mathbb{N}_{\text{even}} \\ 1 & \text{else} \end{cases}$  ותהי  $E = \{1, 5, 6, 8\}$

חשב את הקבוצות הבאות:

א.  $f^{-1}(f(M))$

ב.  $f(f^{-1}(M))$

ג.  $f(f^{-1}(\{-3, 4\}))$

ד.  $f(f^{-1}(\{-3\}))$

ה.  $f(f^{-1}(E))$

3) תהי  $f: A \rightarrow B$  פונקציה ותהינה  $D \subseteq A$ ,  $E \subseteq B$  שתי קבוצות. הוכח או הפרך כל אחת מהטענות הבאות:

א.  $f(D) = D$

ב.  $f(D) \neq D$

ג.  $f^{-1}(E) = E$

ד.  $f^{-1}(E) \neq E$

ה.  $f(D) \subseteq f(A)$

ו. אם  $D \subset A$  אז  $f(D) \subset f(A)$  (שים ♥ שההכלות בסעיף זה הן הכלות ממש).

ז.  $f^{-1}(E) \subseteq A$

ח. אם  $E \subset B$  אז  $f^{-1}(E) \subset A$  (שים ♥ שההכלות בסעיף זה הן הכלות ממש).

ט.  $f$  על אס"ם לכל  $y \in B$  מתקיים:  $f^{-1}(\{y\}) \neq \emptyset$ .

י.  $f$  חח"ע אס"ם לכל  $y \in A$  מתקיים:  $f^{-1}(\{y\})$  ריקה או בעלת איבר אחד.

4) בשאלה זו נבחן את השוויון:  $f(D_1 \cup D_2) = f(D_1) \cup f(D_2)$

א. אשר את השוויון עבור  $f: \mathbb{R} \rightarrow \mathbb{R}$  מוגדרת ע"י:  $f(x) = x^2$ .

$$D_1 = \{2, 5\} \quad D_2 = \{-2, 4\}$$

ב. הוכח כי שוויון זה מתקיים תמיד.

כלומר: תהי  $f: A \rightarrow B$  פונקציה ותהינה  $D_1, D_2 \subseteq A$ .

הוכח כי:  $f(D_1 \cup D_2) = f(D_1) \cup f(D_2)$

5)  $f: A \rightarrow B$  פונקציה ותהינה  $D_1, D_2 \subseteq A$

הוכח או הפרך כל אחת מהטענות הבאות:

א.  $f(D_1 \cap D_2) \subseteq f(D_1) \cap f(D_2)$

ב.  $f(D_1 \cap D_2) \supseteq f(D_1) \cap f(D_2)$

ג. אם  $f$  חח"ע אז  $f(D_1 \cap D_2) = f(D_1) \cap f(D_2)$

ד. אם  $f$  על אז  $f(D_1 \cap D_2) = f(D_1) \cap f(D_2)$

ה. אם  $f(D_1 \cap D_2) \neq f(D_1) \cap f(D_2)$  אז  $f$  אינה חח"ע.

6)  $f: A \rightarrow B$  פונקציה ותהינה  $E_1, E_2 \subseteq B$

הוכח כל אחת מהטענות הבאות:

א.  $f^{-1}(E_1 \cap E_2) = f^{-1}(E_1) \cap f^{-1}(E_2)$

ב.  $f^{-1}(E_1 \cup E_2) = f^{-1}(E_1) \cup f^{-1}(E_2)$

7)  $f : A \rightarrow B$  פונקציה ותהי  $D \subseteq A$ .

הוכח או הפרך כל אחת מהטענות הבאות:

א.  $f^{-1}(f(D)) \subseteq D$

ב.  $f^{-1}(f(D)) \supseteq D$

ג. אם  $f$  חח"ע אז  $f^{-1}(f(D)) = D$ .

ד. אם  $f$  לא חח"ע אז  $f^{-1}(f(D)) \neq D$ .

ה. אם  $f$  על אז  $f^{-1}(f(D)) = D$ .

ו. אם לכל  $D \subseteq A$  מתקיים  $f^{-1}(f(D)) = D$  אז  $f$  על.

ז. אם  $f^{-1}(f(D)) = D$  אז  $f$  חח"ע.

ח. אם לכל  $D \subseteq A$  מתקיים  $f^{-1}(f(D)) = D$  אז  $f$  חח"ע.

ט. אם  $f^{-1}(f(D)) \neq D$  אז  $f$  אינה חח"ע.

י. אם  $f$  על אז לכל  $D \subseteq A$  מתקיים  $f^{-1}(f(D)) = D$ .

יא. אם  $f$  לא על אז קיימת  $D \subseteq A$  עבורה  $f^{-1}(f(D)) \neq D$ .

יב. אם  $f$  לא חח"ע אז קיימת  $D \subseteq A$  עבורה  $f^{-1}(f(D)) \neq D$ .

8)  $f : A \rightarrow B$  פונקציה ותהי  $E \subseteq B$  הוכח או הפרך כל אחת מהטענות הבאות:

א.  $f(f^{-1}(E)) \subseteq E$

ב.  $f(f^{-1}(E)) \supseteq E$

ג.  $f(f^{-1}(E)) \subseteq E$  או  $f(f^{-1}(E)) \supseteq E$ .

ד. אם  $f$  חח"ע אז  $f(f^{-1}(E)) = E$ .

ה. אם  $f$  על אז  $f(f^{-1}(E)) = E$ .

ו. אם לכל  $E \subseteq B$  מתקיים  $f(f^{-1}(E)) = E$  אז  $f$  חח"ע.

ז. אם לכל  $E \subseteq B$  מתקיים  $f(f^{-1}(E)) = E$  אז  $f$  על.

ח. אם לא לכל  $E \subseteq B$  מתקיים  $f(f^{-1}(E)) = E$  אז  $f$  לא על.

ט. אם לכל  $E \subseteq B$  מתקיים  $f(f^{-1}(E)) = E$  אז  $f$  היא פונקציית הזהות.

י. אם קיימת  $E \subseteq B$  כך ש- $f^{-1}(E) \neq E$  אז קיים  $\alpha \in A$  כך שלכל  $\beta \in A$

מתקיים:  $f(\beta) \neq \alpha$ .

- 9 נתונות פונקציה  $f: A \rightarrow B$  וקבוצות  $C, D \subseteq A$ .
- א. הוכח כי:  $f(C \cap D) \subseteq f(C) \cap f(D)$ .
- ב. הוכח שאם  $f$  היא חד-חד-ערכית אז  $f(C \cap D) = f(C) \cap f(D)$ .
- ג. הדגם קבוצות  $C, D \subseteq \mathbb{N}$  ופונקציה  $f: \mathbb{N} \rightarrow \mathbb{N}$  כך ש- $f$  על וגם  $f(C \cap D) \subset f(C) \cap f(D)$ .
- ד. הוכח כי:  $f(C \cup D) = f(C) \cup f(D)$ .

## תשובות סופיות:

- 1 א.  $\{2, 16, 18\}$  ב.  $\{4\}$  ג.  $\{4n | n \in \mathbb{N}\}$  ד. ראה סרטון.  
 ה.  $\{4n + 2 | n \in \mathbb{N}\}$  ו.  $\mathbb{N}$  ז.  $\emptyset$
- 2 א.  $\{0, 1, 4, 5\}$  ב.  $\{0, 4\}$  ג.  $\{0, 4\}$  ד.  $\emptyset$  ה.  $\{1, 8\}$
- 3 א. לא נכון. ב. לא נכון. ג. לא נכון. ד. לא נכון. ה. נכון.  
 ו. לא נכון. ז. נכון. ח. לא נכון. ט. נכון. י. נכון.
- 4 הוכחה.
- 5 א. נכון. ב. לא נכון. ג. נכון. ד. לא נכון. ה. נכון.
- 6 הוכחה.
- 7 א. לא נכון. ב. נכון. ג. נכון. ד. לא נכון. ה. לא נכון.  
 ו. לא נכון. ז. לא נכון. ח. נכון. ט. נכון. י. לא נכון.  
 יא. לא נכון. יב. לא נכון.
- 8 א. לא נכון. ב. נכון. ג. נכון. ד. לא נכון. ה. נכון.  
 ו. לא נכון. ז. נכון. ח. נכון. ט. לא נכון. י. נכון.
- 9 הוכחה.

## הרכבת פונקציות

### שאלות

1) חשבו את ההרכבה  $f \circ g$  ו-  $g \circ f$  במקרה שהן מוגדרות עבור הפונקציות הנתונות.

א.  $f, g: \mathbb{R} \rightarrow \mathbb{R}$   $f(x) = 2^{x^2-1}$   $g(x) = 3x+7$

ב.  $f, g: P(\mathbb{R}) \rightarrow P(\mathbb{R})$   $f(A) = A \cap \mathbb{N}$   $g(A) = \bar{A}$

ג.  $f, g: \mathbb{N} \rightarrow \mathbb{N}$   $f(n) = \text{The sum of } n\text{'s digits}$   $g(n) = 10n$

ד.  $f, g: \mathbb{R} \rightarrow \mathbb{R}$   $f(x) = \begin{cases} 7 & x < 3 \\ 8 & x \geq 3 \end{cases}$   $g(x) = \begin{cases} 5 & x \geq 1 \\ 2 & x < 1 \end{cases}$

ה.  $f, g: \mathbb{R} \rightarrow \mathbb{R}$   $f(x) = 2x-1$   $g(x) = \begin{cases} 2x-1 & x \leq 3 \\ x & x > 3 \end{cases}$

2) חשבו את ההרכבה הבאה:

א. נגדיר  $f, g: \mathbb{R} \rightarrow \mathbb{R}$  באופן הבא:

$$f(x) = \begin{cases} 4x+3 & x < 5 \\ 2x & x \geq 5 \end{cases}, g(x) = \begin{cases} 3 & x \geq 1 \\ 2 & x < 1 \end{cases}$$

חשבו  $g \circ f$ .

ב. עבור  $f, g: \mathbb{R} \rightarrow \mathbb{R}$

$$f(x) = \begin{cases} 3x+1 & x \geq 1 \\ 4-3x & x < 1 \end{cases}, g(x) = \begin{cases} x+3 & x < 2 \\ 2x-1 & x \geq 2 \end{cases}$$

חשבו  $f \circ g$ .

3) בדקו את השוויון  $f \circ (g \circ h) = (f \circ g) \circ h$  עבור הפונקציות הבאות:

א.  $f, g, h: \mathbb{R} \rightarrow \mathbb{R}$   $f(x) = 2x+3$ ,  $g(x) = 2x+3$ ,  $h(x) = 2x+3$

ב.  $f, g, h: \mathbb{R} \rightarrow \mathbb{R}$   $f(x) = 3^{x^2-7}$ ,  $g(x) = x^3+1$ ,  $h(x) = \frac{2}{\sqrt{|x|}+3}$

ג.  $f, g, h: P(\mathbb{R}) \rightarrow P(\mathbb{R})$   $f(A) = A \cap \mathbb{N}$ ,  $g(A) = \bar{A}$ ,  $h(A) = A \Delta \mathbb{Z}$

## שאלת חזרה

יהיו  $f$  ו- $g$  פונקציות מ- $\mathbb{N}$  ל- $\mathbb{N}$  המוגדרות כך:  $f(n) = \begin{cases} \frac{n+1}{2} & n \text{ odd} \\ n-1 & n \text{ even} \end{cases}$

וכן לכל  $n \in \mathbb{N}$ ,  $g(n) = 2n - 1$ .

הוכיחו או הפריכו:

א.  $f$  היא חח"ע.

ב.  $g$  חח"ע.

ג.  $f$  על  $\mathbb{N}$ .

ד.  $g$  על  $\mathbb{N}$ .

ה.  $f \circ g$  היא פונקציית הזהות על  $\mathbb{N}$ .

ו.  $g \circ f$  היא פונקציית הזהות על  $\mathbb{N}$ .

(4) תהי  $f: A \rightarrow B$  פונקציה הוכיחו כי  $f \circ I_A = f$ ,  $I_B \circ f = f$ .  
הסיקו כי לכל  $f: A \rightarrow A$  מתקיים  $f \circ I_A = I_A \circ f = f$  זה מראה כי פונקציית הזהות מתנהגת כמו 1 בכפל.

(5) תהיינה  $f: C \rightarrow D$ ,  $g: B \rightarrow C$ ,  $h: A \rightarrow B$  שלוש פונקציות.  
הוכיחו כי  $(f \circ g) \circ h = f \circ (g \circ h)$ .  
המשמעות של תכונה זו היא שאפשר למקם סוגרים כרצוננו בדיוק כמו בכפל וחיבור רגילים.

6) תהי  $f : A \rightarrow A$ .

הוכיחו את הזהויות הבאות.

הערה: בשני הסעיפים האחרונים נתון כי  $f$  הפיכה.

א.  $f^m \circ f^k = f^{m+k}$

ב.  $f^5 \circ f^{-2} = f^{5-2} = f^3$        $f^2 \circ f^{-5} = f^{2-5} = f^{-3}$

ג. הסק מסעיף קודם כי  $f^m \circ f^{-k} = f^{m-k}$  והסק כי  $f^0 = I$

ד.  $(f^m)^k = (f^m)^k = f^{mk}$

ה.  $(f^{-1})^{-1} = f$

ו.  $(f^{-1})^n = (f^n)^{-1}$

7) תהיינה  $f, g : A \rightarrow A$ .

הוכיחו כי  $\text{Im } f \circ g \subseteq \text{Im } f$  ותנו דוגמה לפונקציות עבורן ההכלה היא הכלה

ממש.

8) הוכיחו או הפריכו:

א. אם  $g$  היא פונקציה על אז  $\text{Im } f \circ g = \text{Im } f$ .

ב. אם  $\text{Im } f \circ g = \text{Im } f$  אז  $g$  היא פונקציה על.

9) תהי  $\mathbb{N}$  הטבעיים ותהי  $B \subseteq \mathbb{N}$  תת קבוצה סופית לא ריקה נתונה.

נגדיר  $f : P(\mathbb{N}) \rightarrow P(\mathbb{N})$  באופן הבא:

$$f(X) = \begin{cases} X \cap B^c & X \cap B \neq \emptyset \\ X \cup B & X \cap B = \emptyset \end{cases}$$

לדוגמה, עבור  $B = \{1, 2\}$  מתקיים:  $f(\{2, 3\}) = \{3\}$ ,  $f(\{3, 4\}) = \{1, 2, 3, 4\}$ .

א. הוכיחו כי אם  $X \cap B = \emptyset$  אז  $f(f(X)) = X$ .

ב. הוכיחו כי אם  $B \subseteq X$  אז  $f(f(X)) = X$ .

ג. הוכיחו כי אם  $X$  שייכת לתמונה של הפונקציה אז  $f(f(X)) = X$ .

ד. האם הפונקציה חח"ע?

ה. האם הפונקציה על?

10) תהי  $A$  קבוצה ו- $B$  תת קבוצה החלקית ממש ל- $A$ . נתונות הפונקציות

$$\begin{aligned} g(X) &= X \cap B \\ f(X) &= A - X \end{aligned} \quad f, g: P(A) \rightarrow P(A)$$

הוכיחו או הפריכו:  $f \circ g$  על.

11) הוכיחו או הפריכו:

הפונקציה  $f: \mathbb{R} \times \mathbb{R} \rightarrow \mathbb{R} \times \mathbb{R}$ , המוגדרת על-ידי  $f((x, y)) = (3x + 4y, 4x + 5y)$ , היא פונקציה הפיכה.

12) נגדיר פונקציה  $h: \mathbb{N} \rightarrow \mathbb{Z}$  כך:  $h(x) = 2x$

הוכיחו כי  $\{f \circ h \mid f \in \mathbb{N}^{\mathbb{Z}}\} = \mathbb{N}^{\mathbb{N}}$ .

13) מצאו  $f: \mathbb{N} \rightarrow \mathbb{N}$  שאינה פונקציה קבועה ואינה זהות כך ש- $f \circ f = f$ .

14) נתונות שלוש פונקציות  $f, g, h: \mathbb{R} \rightarrow \mathbb{R}$ .

הוכיחו כי אם  $f \circ g$  חח"ע וגם  $g \circ h$  חח"ע וגם  $h \circ f$  חח"ע, אז  $f, g, h$  שלושתן הפיכות.

15) תהינה  $f: B \rightarrow C, g: A \rightarrow B$  שתי פונקציות (בתנאים אלו  $f \circ g: A \rightarrow C$ ).

הוכיחו או הפריכו (במקרה של הפרכה בחרו  $A = B = C = \mathbb{N}$ ):

א. אם  $f$  חח"ע וגם  $g$  חח"ע אז  $f \circ g$  חח"ע.

ב. אם  $f \circ g$  חח"ע אז  $f$  חח"ע.

ג. אם  $f \circ g$  חח"ע אז  $g$  חח"ע.

ד. אם  $f$  על וגם  $g$  על אז  $f \circ g$  על.

ה. אם  $f \circ g$  על אז  $f$  על.

ו. אם  $f \circ g$  על אז  $g$  על.

ז. אם  $f \circ g$  חח"ע וגם  $g$  על אז  $f$  חח"ע.

ח. אם  $f \circ g$  על וגם  $f$  חח"ע אז  $g$  על.

ט. אם  $f$  לא חח"ע וגם  $g$  לא על אז  $f \circ g$  לא חח"ע או  $f \circ g$  לא על.

**16** תהי  $A$  קבוצה כלשהי ותהיינה  $f, g, h: A \rightarrow A$ . הוכיחו או הפריכו:

- א. אם  $g = h$  אז  $g \circ f = h \circ f$ .  
 ב. אם  $g \circ f = h \circ f$  וגם  $f$  על אז  $g = h$ .  
 ג. אם  $g \circ f = h \circ f$  וגם  $f$  חח"ע אז  $g = h$ .  
 ד. אם  $f \circ g = f \circ h$  אז  $g = h$ .  
 ה. אם  $f \circ g = f \circ h$  וגם  $f$  חח"ע אז  $g = h$ .  
 ו. אם  $f \circ g = f \circ h$  וגם  $f$  על אז  $g = h$ .

**17** תהי  $A$  קבוצה ותהי  $f: A \rightarrow A$  פונקציה. הוכיחו או הפריכו:

- א. אם  $f \circ f = f$  אז  $f = I$ .  
 ב. אם  $f \circ f = f$  אז  $f = I$  או ש- $f$  היא פונקציה קבועה.  
 ג. אם  $f \circ f = f$  וגם  $f$  חח"ע אז  $f = I$ .  
 ד. אם  $f \circ f = f$  וגם  $f$  על אז  $f = I$ .

**18** יהיו  $f, g, h: \mathbb{N} \rightarrow \mathbb{N}$  הפריכו (שאלה קשה מאוד):

- א. אם  $f \circ g = f \circ h$  וגם  $f$  על וגם  $g, h$  חח"ע וגם אז  $g = h$ .  
 ב. אם  $g \circ f = h \circ f$  וגם  $f$  חח"ע וגם  $g, h$  על אז  $g = h$ .  
 ג. אם  $f \circ f = I$  או  $f \circ f \circ f = I$ .  
 ד. אם  $f \circ f \circ f = f \circ f$  אז  $f \circ f = f$ .

### תשובות סופיות

השאלות בנושא זה הן שאלות הוכחה, ראו תשובות מפורטות באתר.

# מבוא למתמטיקה דיסקרטית

פרק 4 - יחסים

תוכן העניינים

- 1. יחסים - מושגי יסוד ..... 43
- 2. יחס רפלקסיבי, סימטרי, טרנזיטיבי, אנטי-יחס, סגור ..... 45
- 3. יחס שקילות, קבוצת מנה, מחלקת שקילות ..... 49
- 4. יחסי סדר ..... 52
- 5. שאלות שמשלבות יחסים ופונקציות ..... 53

## יחסים – מושגי יסוד

### שאלות

- (1) רשמו במפורש את היחסים כקבוצה של זוגות סדורים. היחס  $R$  המוגדר מעל  $A$  להיות  $aRb \Leftrightarrow b > a + 3$ , כאשר:
- א.  $A = \{1, 2, 3, 4, 5, 6, 7\}$
- ב.  $A = \{3, 5, 19, 103\}$
- ג.  $A = \{5, 6, 7\}$
- (2) עבור  $A = \{1, 2, 3, 4, 5, 6\}$ , רשמו את היחסים הבאים כקבוצה מפורשת של זוגות:
- א.  $R_1 = \{(x, y) \mid x^2 + y^2 < 5\}$
- ב.  $R_2 = \{(x, y) \mid x^2 + y^2 > 5\}$
- ג.  $R_3 = \{(x, y) \mid x < y + 2\}$
- ד.  $R_4 = \{(x, y) \mid x \cdot y > 8\}$
- (3) עבור כל אחת מהקבוצות הבאות קבעו האם היא יחס, ובמידה וכן, מצאו קבוצה קטנה ביותר  $A$ , כך ש- $R$  יחס מעל  $A$ .
- א.  $R = \{2, 5, (7, 8)\}$
- ב.  $R = \{(1, 3), (3, 7), (2, 5)\}$
- ג.  $R = \{((1, 2), (3, 4)), ((1, 3), (2, 4))\}$
- (4) עבור הקבוצות משאלה 1, בכל מקרה בו הקבוצה היא יחס רשמו את  $\text{dom}(R)$  ואת  $\text{range}(R)$ , ורשמו את היחס במטריצה.
- (5) נגדיר יחס  $R$  מעל הקבוצה  $A = \{1, 2, 3, 4, 5\}$ , כך:  $\langle x, y \rangle \in R \Leftrightarrow |y - x| > 2$ .
- א. רשמו את  $R$  במפורש בעזרת  $\langle \dots \rangle$  ובעזרת דיגרף.
- ב. חשבו את היחס  $R^{-1}$  ואת כל החזקות השונות של  $R$ .
- ג. מצאו אם היחס  $R$  מקיים את התכונות הבאות ומה נובע מכך:
- $$R \cap R^{-1} \subseteq I_A, \quad R = R^{-1}, \quad I_A \subseteq R, \quad R^2 \subseteq R$$

6) תהי  $A = \{1, 2, 3, 4\}$  ויהי  $R$  יחס מעל  $A$ .  
איזו טענה נכונה:

א. ה-Domain של  $R = \{(1, 1), (2, 2), (1, 3)\}$  הוא  $\{1, 2\}$ .

ב. ה-Range של  $\begin{pmatrix} 1 & 2 & 1 \\ 1 & 2 & 3 \end{pmatrix}$  הוא  $\{2, 3, 1\}$ .

ג. ה-Domain של היחס  $R = \{(1, 1), (2, 2), (1, 3)\}$  שווה ל-Range של  $R^{-1}$ .

7) תהי  $A = \{1, 2, 5\}$  ויהי  $R$  יחס מעל  $A$ .  
איזו טענה נכונה:

א. אם  $R$  הוא יחס הזהות ( $R = I_A$ ), אז  $R = \{(1, 1), (2, 2), (5, 5)\}$ .

ב. אם  $R$  הוא היחס המלא, אז

$R = \{(1, 1), (1, 2), (1, 5), (2, 1), (2, 2), (2, 5), (5, 1), (5, 2), (5, 5)\}$

ג. אם  $R$  הוא יחס הזהות, אז  $\left((IR)^{-1}\right)^{-1} = R$ .

8) תהיינה  $A = \{1, 2\}$ ,  $B = \{a, b\}$ ,  $C = \{5, 6\}$ ,  
ויהי  $S$  יחס כך ש- $S \subseteq B \times C$ .  
איזו טענה נכונה:

א.  $SR = \emptyset$ .

ב. אם  $R$  ו- $S$  יחסים מלאים, אז ב- $RS$  יש ארבעה איברים.

ג. אם  $R$  הוא היחס הריק ו- $S$  הוא היחס המלא, אז  $RS = S$ .

ד. ה-Domain שווה ל-Range של  $S^{-1}R^{-1}$ .

9) תהי  $A = \{1, 2, 5\}$  ויהי  $R = \{(1, 1), (1, 2), (2, 5), (5, 5)\}$  יחס מעל  $A$ .

א. הביעו את  $R$  בצורה של גרף.

ב. הביעו את  $R^{-1}$  בצורה של גרף.

ג. הביעו את יחס הזהות מעל  $A$  בצורה של גרף.

ד. הביעו את היחס המלא מעל  $A$  בצורה של גרף.

ה. הביעו את יחס הזהות מעל  $A$  בצורה של מטריצת סמיכויות.

ו. הביעו את היחס הריק בצורה של מטריצת סמיכויות.

ז. הביעו את  $RR^{-1}$  בצורה של גרף.

ח. הביעו את  $R \cup R^{-1}$  בצורה של גרף.

הדרכה: יש למצוא תחילה את הזוגות.

ט. הביעו את  $(R^{-1}R) \cap (RR^{-1})$  בצורה של מטריצת סמיכויות.

י. הביעו את  $(R^{-1}R) \setminus (RR^{-1})$  בצורה של גרף.

יא. הביעו את  $(R^{-1}R) \Delta (RR^{-1})$  בצורה של גרף.

## יחס רפלקסיבי, סימטרי, טרנזיטיבי, אנטי-יחס, סגור

### שאלות

(1) עבור  $A = \{1, 2, 3, 4, 5, 6, 7\}$  נגדיר יחס  $T$  באופן הבא:  $\langle x, y \rangle \in T \Leftrightarrow x \cdot y \leq 23$ .  
רשום מדגם בן שלושה זוגות של איברים ביחס ובדוק האם  $T$  רפלקסיבי, סימטרי, אנטי סימטרי (חלש) טרנזיטיבי.

(2) נתון היחס  $T$  הבא מעל  $A = \{1, 2, 3, 4\}$   
 $T = \{\langle 2, 3 \rangle, \langle 3, 2 \rangle, \langle 2, 1 \rangle, \langle 1, 2 \rangle, \langle 4, 4 \rangle, \langle 3, 3 \rangle, \langle 1, 1 \rangle, \langle 2, 2 \rangle\}$   
האם  $T$  רפלקסיבי? אם לא רפלקסיבי אז הוסף או החסר מספר מינימאלי של זוגות כדי שהתשובה תהיה חיובית.  
האם  $T$  סימטרי? אם לא אז סימטרי הוסף או החסר מספר מינימאלי של זוגות כדי שהתשובה תהיה חיובית.  
האם  $T$  טרנזיטיבי? אם לא טרנזיטיבי אז הוסף או החסר מספר מינימאלי של זוגות כדי שהתשובה תהיה חיובית.  
הוסף או החסר מספר מינימאלי של זוגות כדי ש- $T$  יהיה גם רפלקסיבי, גם סימטרי, וגם טרנזיטיבי.

(3) נגדיר יחס  $T$  מעל  $\mathbb{Z}$  באופן הבא:  $T = \{\langle a, b \rangle \mid a \cdot b \in \mathbb{Z}_{\text{even}}\}$

א. רשום שלוש זוגות ביחס ושלושה זוגות שאינם ביחס.  
ב. בדוק האם  $T$  רפלקסיבי, סימטרי, טרנזיטיבי.

(4) נתון יחס  $S$  מעל  $\mathbb{Z}$  המוגדר באופן הבא: (יש ל- $x, y$  אותה הזוגיות)  
 $\langle x, y \rangle \in S \Leftrightarrow$  (כלומר שניהם זוגיים או שניהם אי זוגיים)  
הוכח כי  $S$  רפלקסיבי, סימטרי וטרנזיטיבי.

(5) נתון יחס  $R$  מעל קבוצה  $A$ .  
הוכיחו כי  $R^2 \subseteq R$  אם  $R$  טרנזיטיבי.

(6) נתון יחס  $S$  מעל  $\mathbb{Z}$  המוגדר באופן הבא:  $\langle x, y \rangle \in S \Leftrightarrow 3 \mid x - y$ .  
הוכח כי  $S$  רפלקסיבי, סימטרי וטרנזיטיבי.

7 נתונים היחסים הבאים מעל  $A = \{1, 2, 3\}$ ,

$$R_1 = \{(1, 2), (2, 1), (2, 3)\} \quad R_2 = \{(1, 2), (2, 2), (2, 3), (2, 1)\}$$

עבור כל אחד מארבעת היחסים  $R_1, R_2, R_1 \cap R_2, R_1 \cup R_2$ , קבעו האם הוא רפלקסיבי, סימטרי או טרנזיטיבי. (במקרה של הפרכה הביאו דוגמה מתאימה)

8 עבור  $A = \{1, 2, 3, 4, 5, 6\}$ , נגדיר  $S$  מעל  $A$  כך:

$$S = \{ \langle 1, 1 \rangle, \langle 1, 2 \rangle, \langle 1, 5 \rangle, \langle 2, 2 \rangle, \langle 2, 6 \rangle, \langle 3, 1 \rangle, \langle 6, 3 \rangle \}$$

- בדקו אם  $S$  רפלקסיבי, סימטרי, אנטי-סימטרי חלש, חזק וטרנזיטיבי.
- רשמו את היחסים  $I_A$  ו- $S^{-1}$ .
- רשמו את כל החזקות השונות של  $S$ .
- רשמו את היחס  $R = \{1, 3, 6\}^2 \cup \{2, 4\}^2 \cup \{5\}^2$ , כקבוצה של זוגות.
- היחס  $R$  הוא יחס שקילות. רשמו את מחלקות השקילות השונות ואת קבוצת המנה.

9 לגבי כל אחד מהיחסים הבאים, רשמו שלושה זוגות שנמצאים ביחס, ונמקו מדוע הם ביחס. כתבו שלושה זוגות שאינם ביחס, ונמקו מדוע אינם ביחס. כמו כן, קבעו האם היחס הוא רפלקסיבי, אנטי רפלקסיבי, סימטרי, א-סימטרי חלש, חזק, וטרנזיטיבי.

- יחס  $@$  מעל  $\mathbb{R}$ , המוגדר באופן הבא:  $(x, y) \in @ \Leftrightarrow |x - y| \leq 100$ .
- יחס  $\clubsuit$  מעל  $\mathbb{Z}$ , המוגדר באופן הבא:  $(x, y) \in \clubsuit \Leftrightarrow 3|x - y|$ .
- היחס  $\subseteq$  מעל  $P(\mathbb{N})$ , המוגדר באופן הבא:  $A \subseteq B \Leftrightarrow (A, B) \in \subseteq$ .
- היחס שרגא מעל  $\mathbb{R}$ , המוגדר באופן הבא: שרגא  $(x, y) \in$  שרגא  $\Leftrightarrow x + y \geq x \cdot y$ .
- יחס  $T$  מעל  $\mathbb{Z}$ , המוגדר באופן הבא:  $(x, y) \in T \Leftrightarrow x^2 + y \geq 1$ .

10 תהי  $\mathbb{N}_+$  הקבוצה  $\mathbb{N} \setminus \{0\}$ , ונגדיר עליה יחס  $R$  כך:  $aRb \Leftrightarrow [a = b^b \vee b = a^a]$ .

- האם  $|R|$ ? האם  $R$  רפלקסיבי?
- האם  $R$  סימטרי?
- האם  $R$  אנטי-סימטרי?
- האם  $R$  טרנזיטיבי?

**11** נגדיר יחס  $R$  על הקבוצה  $\mathbb{N} \rightarrow \mathbb{N}$ , על ידי  $\langle f, g \rangle \in R$  אם ורק אם קיימת  $A \subseteq \mathbb{N}$  אינסופית, כך ש- $f(n) = g(n)$  לכל  $n \in A$ .

א. האם  $R$  רפלקסיבי?

ב. האם  $R$  אנטי-סימטרי?

ג. האם  $R$  טרנזיטיבי?

**12** בדקו האם היחס הוא רפלקסיבי, סימטרי, אנטי-סימטרי וטרנזיטיבי:

א. נגדיר יחס  $T$  מעל  $\mathbb{R}$ , כך:  $aTb \Leftrightarrow a < b+1$ .

ב. נגדיר יחס  $P$  מעל  $P(\mathbb{N})$ , כך:  $APB \Leftrightarrow (A = B \vee A \cup \{1, 2\} = B)$ .

**13** מצאו אלו מהתכונות: רפלקסיביות, אנטי-רפלקסיביות, סימטריות, אנטי-סימטריות חלשה, אנטי סימטריות חזקה וטרנזיטיביות, מקיים כל אחד

מהיחסים הבאים, מעל הקבוצות  $\mathbb{Z}, \mathbb{N}, A = \{3, 5, 7, 9\}$ .

א.  $xRy \Leftrightarrow \exists m \in \mathbb{Z}_{\text{odd}} x = my$

ב.  $xsy \Leftrightarrow \exists m \in \mathbb{Z}_{\text{even}} x = my$

ג.  $xRy \Leftrightarrow \exists m \in \mathbb{Z}_{\text{odd}} (x = my \vee y = mx)$

**14** תהי  $A = \{1, 2, 3, 4\}$  ויהי  $R$  יחס מעל  $A$ .

איזו טענה נכונה:

א.  $R = \{(1, 1), (2, 2), (3, 3)\}$  הוא יחס הזהות מעל  $A$ .

ב.  $R = \{(1, 1), (1, 2), (1, 3), (1, 4)\}$  הוא היחס המלא מעל  $A$ .

ג. אם  $R$  הוא היחס המלא מעל  $A$ , אז  $R^{-1}$  הוא היחס המלא מעל  $A$ .

ד. אם  $R$  הוא יחס הזהות מעל  $A$ , אז  $R^{-1}$  הוא יחס הזהות מעל  $A$ .

ה. יהי  $R$  יחס מעל  $A = \{1, 2\}$ .

האם יתכן כי  $R$  אינו טרנזיטיבי? נמקו.

**15** יהי  $R$  יחס מעל  $A$ . הוכיחו:

א. אם  $I_A \subseteq R$ , אז  $R$  רפלקסיבי.

ב. אם  $R = R^{-1}$ , אז  $R$  סימטרי.

ג. אם  $R^2 \subseteq R$ , אז  $R$  טרנזיטיבי.

ד. אם  $R \cap R^{-1} \subseteq I_A$ , אז  $R$  אנטי-סימטרי.

16) תהי  $A = \{1, 2, 3, 4\}$  ויהי  $R = \{(1, 2), (2, 1), (1, 3)\}$  יחס מעל  $A$ .

- א. רשמו את הסגור הרפלקסיבי של  $R$ .
- ב. רשמו את הסגור הסימטרי של  $R$ .
- ג. רשמו את הסגור הטרנזיטיבי של  $R$ .

17) תהי  $A$  קבוצה ו- $R$  יחס מעל  $A$  הוכיחו או הפריכו כל אחת מהטענות הבאות. בכל מקרי ההפרכה תנו דוגמה נגדית מינימלית. בדקו האם יש בדוגמתך פרטים מיותרים והסר אותם.

- א. אם  $R$  סימטרי, אז  $R$  טרנזיטיבי.
- ב. אם  $R$  אנטי סימטרי חלש, אז  $R$  טרנזיטיבי.
- ג. אם  $R$  סימטרי וגם אנטי סימטרי חלש, אז  $R$  טרנזיטיבי.
- ד. אם  $R$  סימטרי וגם אנטי סימטרי חלש, אז  $R = \emptyset$ .
- ה. אם  $R$  סימטרי וגם אנטי סימטרי חזק, אז  $R = \emptyset$ .
- ו. אם  $R$  טרנזיטיבי וסימטרי, אז  $R$  רפלקסיבי.
- ז. אם  $R$  טרנזיטיבי ואנטי רפלקסיבי, אז  $R$  אנטי סימטרי חזק.
- ח. אם  $R$  טרנזיטיבי ולא סימטרי, אז  $R$  אנטי סימטרי חלש.

18) יהי  $R$  יחס סימטרי וטרנזיטיבי מעל  $A$ , כך ש- $aRb \implies a \in A \wedge b \in A$ . הוכיחו כי  $R$  רפלקסיבי.

19) הוכיחו או הפריכו: לכל קבוצה  $A$  ולכל יחס רפלקסיבי  $R$  מעל  $A$  קיימות קבוצות  $B, C \subseteq A$ , כך ש- $R = B \times C$ .

20) יהי  $S$  יחס אנטי רפלקסיבי וטרנזיטיבי מעל קבוצה  $A$ , ונניח שקיים  $y \in A$ , עבורו  $\forall x \in A (x, y) \in S$ . הוכיחו כי לכל  $z \in A$  מתקיים  $(y, z) \notin S$ .

21) נתון כי  $R$  יחס על  $A$  וכן  $R \cap I_A = \emptyset$  (אנטי-רפלקסיבי), וכן  $a, b \in A$ , לא בהכרח שונים זה מזה, המקיימים  $(a, b) \in R^2$  וגם  $(b, a) \in R^2$ . הוכיחו שקיימים  $c, d \in A$  (לא בהכרח שונים זה מזה), שאף אחד מהם אינו שווה ל- $a$  ואינו שווה ל- $b$ , המקיימים  $(c, d) \in R^2$  וגם  $(d, c) \in R^2$ .

## יחס שקילות, קבוצת מנה, מחלקת שקילות

### שאלות

- 1) עבור  $A = \{1, 2, 3, 4, 5\}$  נגדיר יחס  $S$  על  $A$  כך:  $xSy \Leftrightarrow x \cdot y \geq 2$ .
- א. האם  $S^2 \setminus S = \emptyset$ ?
- ב. האם  $S$  יחס שקילות על  $A$ ?
- 2) עבור  $A = \{1, 2, 3\}$  נגדיר יחסים  $R, S$  מעל  $A$  כך:
- $$R = \{\langle 1, 2 \rangle, \langle 3, 2 \rangle\}, \quad S = \{\langle 1, 2 \rangle, \langle 2, 2 \rangle, \langle 2, 3 \rangle, \langle 3, 1 \rangle\}$$
- א. חשבו את היחסים  $RS$  ו- $SR$ , ובדקו האם הם יחסי שקילות.
- ב. האם היחסים  $S$  ו- $S^2$  אנטי-סימטריים? נמקו.
- 3) תהי  $S$  קבוצה שאיבריה הן קבוצות, ונגדיר יחס בינארי  $E$  מעל  $S$  באופן הבא:
- $$(A \subseteq B \wedge B \subseteq A) \Leftrightarrow AEB$$
- הוכיחו או הפריכו:  $E$  יחס שקילות.
- 4) נגדיר יחס בינארי  $E$  מעל  $\mathbb{Z} - \{0, 1\}$  (קבוצת השלמים ללא 0 ו-1) באופן הבא:
- $$aEb \Leftrightarrow ab \geq -1$$
- הוכיחו כי  $E$  יחס שקילות ותנו תיאור מפורש של מחלקות השקילות שלו.
- 5) תהי  $A = \mathbb{N} \times \mathbb{N}$  קבוצת כל הזוגות הסדורים של המספרים הטבעיים, ויהי  $R \subseteq A^2$  יחס המוגדר על ידי  $(m_1, n_1)R(m_2, n_2) \Leftrightarrow m_1 - m_2 = n_1 - n_2$ .
- א. הוכיחו כי  $R$  הינו יחס שקילות ב- $A$ .
- ב. תארו באופן גרפי את מחלקות השקילות  $[(1,1)]_R, [(1,2)]_R, [(2,1)]_R$ .
- 6) נתון היחס  $R$  מעל  $\mathbb{N}$ .
- $$xRy \Leftrightarrow (6|x-y) \vee (3|x \cdot y)$$
- מצאו את מחלקות השקילות ואת קבוצת המנה.

(7) נגדיר יחס שקילות  $S$  מעל  $\mathbb{R}$  באופן הבא:  $xSy \Leftrightarrow (x = y = 0) \vee (xy > 0)$

ונגדיר יחס שקילות  $T$  מעל  $\mathbb{R}$  באופן הבא:  $xTy \Leftrightarrow (x^2 - 9)S(y^2 - 9)$

(אין צורך להוכיח כי מדובר ביחסי שקילות)

כתבו במפורש את קבוצת המנה  $\mathbb{R}/T$ , ונמקו בקצרה.

(8) יהי  $R$  יחס שקילות על  $A$ .

נאמר כי  $R$  אוקלידי, אם עבור כל  $a, b, c \in A$  מתקיים התנאי:

$$[(a, b) \in R \wedge (a, c) \in R] \Rightarrow (b, c) \in R$$

הוכיחו או הפריכו:

א. אם  $R$  יחס שקילות, אז הוא אוקלידי.

ב. אם  $R$  רפלקסיבי ואוקלידי, אז הוא יחס שקילות.

(9) נתון כי  $R$  יחס שקילות על  $A$ , וכן  $A \in P(B) \setminus \{B\}$ .

האם מהנתון נובע כי  $R$  יחס שקילות על  $B$ , או שאינו יחס שקילות על  $B$ ?

(10) תהי  $A$  קבוצה ויהיו  $R, S$  יחסים מעל  $A$ .

הוכיחו או הפריכו את הטענות הבאות (הפרכה = דוגמה מינימלית):

א. אם  $R, S$  רפלקסיביים, אז  $R \cap S$  רפלקסיבי.

ב. אם  $R, S$  רפלקסיביים, אז  $R \cup S$  רפלקסיבי.

ג. אם  $R, S$  סימטריים, אז  $R \cap S$  סימטרי.

ד. אם  $R, S$  סימטריים, אז  $R \cup S$  סימטרי.

ה. אם  $R, S$  טרנזיטיביים, אז  $R \cap S$  טרנזיטיבי.

ו. אם  $R, S$  טרנזיטיביים, אז  $R \cup S$  טרנזיטיבי.

ז. אם  $R, S$  יחסי שקילות, אז  $R \cap S$  יחס שקילות.

ח. אם  $R, S$  יחסי שקילות, אז  $R \cup S$  יחס שקילות.

ט. אם  $R, S$  אנטי סימטריים חלש, אז  $R \cap S$  אנטי סימטרי חלש.

י. אם  $R, S$  אנטי סימטריים חלש, אז  $R \cup S$  אנטי סימטרי חלש.

(11) רשמו במפורש את כל יחסי השקילות  $E$  מעל  $S = \{a, b, c, d\}$

המקיימים  $|S/E| = 2$  וכל מחלקות השקילות הן שוות עוצמה.

הערה: יש להציג כל יחס כבת קבוצה מפורשת של  $S \times S$ .

- 12** יהי  $S$  יחס המוגדר מעל  $P(\mathbb{N})$  קבוצת החזקה של  $\mathbb{N}$  באופן הבא:
- $\min A = \min B \Leftrightarrow ASB$ , כאשר  $\min A$  הוא המספר הקטן ביותר ב- $A$ .
- א. הוכיחו כי  $S$  הינו יחס שקילות.
- ב. נסמן ב- $K$  את קבוצת מחלקות השקילות של היחס  $S$ .  
בנו פונקציה  $F: K \rightarrow \mathbb{N}$  חח"ע ועל.

- 13** יהיו  $R, S$  יחסי שקילות מעל  $A$ .
- הוכיחו כי  $R \Delta S$  לא יחס שקילות מעל  $A$ .

- 14** יחס  $R$  מעל  $A$  נקרא סוגר משולשים, אם מתקיים  $(aRb \wedge bRc) \rightarrow cRa$
- לכל  $a, b, c \in A$ .

- א. הוכיחו כי יחס רפלקסיבי וסוגר משולשים הוא יחס שקילות.
- ב. הוכיחו כי אם  $R$  סימטרי, סוגר משולשים ואינו ריק,  
אז  $R$  אינו אנטי רפלקסיבי.

- 15** יחס השקילות  $S$  על  $P(N)$  מוגדר כך:  $S\{(A, B) \mid A \cap \{1, 2, 3\} = B \cap \{1, 2, 3\}\}$ .
- א. מהי העוצמה של מחלקת השקילות  $[\{4, 7, 9\}]_S$ ?
- ב. כמה מחלקות שקילות יש?

## יחסי סדר

## שאלות

1) הוכיחו כי היחס  $R$ , המוגדר מעל הקבוצה  $A = \{2^k \mid k \in \mathbb{N}\}$ , על ידי  $aRb \Leftrightarrow a|b$ , הוא יחס סדר מלא.

2) נגדיר יחס בינארי  $D$  מעל הקבוצה  $\mathbb{R}^2 = \{(a,b) \mid a \in \mathbb{R}, b \in \mathbb{R}\}$  באופן הבא:  $(a_1, b_1)D(a_2, b_2) \Leftrightarrow (a_1 \geq a_2) \wedge (a_1 + b_1 \geq a_2 + b_2)$ . הוכיחו כי  $D$  יחס סדר חלש שאינו מלא.

3) נגדיר יחס  $R$  מעל הקבוצה  $\mathbb{N} \times \mathbb{N}$  באופן הבא:  $(a,b)R(c,d) \Leftrightarrow (a \leq c \wedge b \leq d)$ .

א. הוכיחו כי  $R$  יחס סדר חלש שאינו מלא.

ב. מצאו תת קבוצה אינסופית של  $\mathbb{N} \times \mathbb{N}$ , שעליה היחס  $R$  הוא מלא.

4) נגדיר יחס סדר (חלש)  $S$  מעל  $\mathbb{R}$  באופן הבא:  $xSy \Leftrightarrow \neg((\lfloor x \rfloor = \lfloor y \rfloor \rightarrow y < x))$  (אין צורך להוכיח שמדובר ביחס סדר).

כתבו במפורש את כל האיברים המינימליים של  $S$ .

תזכורת:  $x \in A$  נקרא מינימלי ביחס סדר  $R$ , אם  $\forall y \in A ((y \neq x) \rightarrow \neg(yRx))$ .

5) יהי  $R$  יחס סדר חלש מעל  $A$ , ויהי  $S$  יחס סדר חלש מעל  $B$ . הוכיחו כי אם  $A \cap B = \emptyset$ , אז  $R \cup S$  יחס סדר חלש מעל  $A \cup B$ .

6) תהי  $A$  קבוצה לא-ריקה ותהי  $K$  קבוצת כל יחסי השקילות מעל  $A$  (סדורה חלקית ביחס להכלה).

א. הראו שיש ב- $K$  איבר קטן ביותר וגדול ביותר, והוכיחו שהם שייכים

ל- $K$  ואכן מקיימים את הנדרש.

ב. תהי  $A = \{1, 2, 3, 4\}$ .

נסלק מ- $K$  את האיבר הקטן ביותר והגדול ביותר שנמצאו בסעיף א, ונסמן את הקבוצה החדשה שהתקבלה ב- $L$  (שאף היא סדורה חלקית ביחס להכלה).

תנו דוגמה לשני איברים מינימליים ב- $L$  והוכיחו שהם מינימליים,

ותנו דוגמה לשני איברים מקסימליים ב- $L$  והוכיחו שהם מקסימליים.

ג. הוכיחו שאין ב- $L$  איבר קטן ביותר וגדול ביותר.

## שאלות שמשלבות יחסים ופונקציות

### שאלות

- (1) יחס  $T$  מעל  $\mathbb{R}^{\mathbb{R}}$  מוגדר באופן הבא:  $fTg \Leftrightarrow f \circ g = g \circ f$ . הוכיחו או הפריכו: יחס שקילות.
- (2) תהיינה  $A, B$  שתי קבוצות לא ריקות ויהיו  $<_A, <_B$  יחסי סדר חזקים ומלאים (משוויים) מעל  $A, B$  בהתאמה. תהי  $f: A \rightarrow B$  פונקציה המקיימת אם  $a_1 <_A a_2$ , אז  $f(a_1) <_B f(a_2)$ . הוכיחו כי  $f$  חח"ע אך אינה בהכרח על.
- (3) יהי  $T$  יחס המוגדר מעל הקבוצה  $\mathbb{R}^{\mathbb{R}}$  באופן הבא:  $fTg \Leftrightarrow \exists x \in \mathbb{R}$  קיים  $x$  כך ש- $f(x) = g(x)$ . האם  $T$  יחס שקילות?
- (4) תהי  $F: A \rightarrow A$  פונקציה, ונגדיר יחס  $R$  מעל  $A$  כך:  $aRb \Leftrightarrow f(a) = b$ . נתון ש- $R$  סימטרי וטרנזיטיבי. הוכיחו כי  $F$  היא פונקציית הזהות.
- (5) נגדיר יחס  $S$  על הקבוצה  $\mathbb{R} \times \mathbb{R}$  כך:  $(x_1, x_2)S(y_1, y_2) \Leftrightarrow x_1^2 - x_2 = y_1^2 - y_2$ . יחס שקילות (אין צורך להוכיח). הוכיחו כי קבוצת המנה  $S \setminus \mathbb{R} \times \mathbb{R}$  שוות עוצמה לקבוצה  $\mathbb{R}$ .
- (6) תהי  $A$  קבוצה לא ריקה ותהי  $A^A$  קבוצת כל הפונקציות מ- $A$  ל- $A$ . נגדיר יחס  $E$  מעל  $A^A$  באופן הבא: לכל  $f, g \in A^A$ , אם ורק אם קיימת  $h \in A^A$  הפיכה, כך ש- $f = h \circ g$ . א. הוכיחו כי  $E$  יחס שקילות. ב. יהי  $c \in A$  כלשהו, ותהי  $f_c: A \rightarrow A$  הפונקציה הקבועה המוגדרת על ידי  $\forall x \in A \quad f_c(x) = c$ . תארו את מחלקת השקילות של  $f_c$  ביחס ל- $E$  (תנו תיאור מפורש ככל הניתן) ונמקו.

(7) תהי  $J$  קבוצת כל היחסים מעל  $A$ , ו- $E$  קבוצת כל יחסי השקילות מעל  $A$ .  
נגדיר פונקציה  $F: J \times E \rightarrow J$  באופן הבא:  $F(R, S) = R \cap S$ .  
הוכיחו כי  $F$  על.

(8) תהי  $A$  קבוצה סופית ותהי  $B$  תת קבוצה של  $A$ .  
נסמן ב- $F$  את קבוצת כל הפונקציות מ- $A$  ל- $\{0,1\}$ .  
נגדיר יחס  $E$  מעל  $F$  באופן הבא:  $F = \{(f, g) \mid B \subseteq \{x \mid f(x)g(x)\}\}$ .  
א. בהינתן  $A = \{1,2,3\}$  ו- $B = \{1,2\}$ , תנו דוגמה ל- $f, g, h \in F$  שונים,  
כך ש- $(f, h) \notin E, (f, g) \in E$ .  
ב. הוכיחו כי  $E$  יחס שקילות.  
ג. מה עוצמת קבוצת המנה  $F/E$ ? נמקו.

(9) תהי  $A = \{1,2,3\}$  ותהי  $M$  קבוצת כל היחסים מעל  $A$ ,  
נגדיר פונקציה  $t: M \rightarrow M$ , המתאימה לכל יחס את הסגור הטרנזיטיבי שלו.  
א.  $t$  חח"ע.  
ב.  $t$  על.  
ג. לכל  $R \in M$  מתקיים  $t(R^2) = (t(R^2))^2$ .  
ד. לכל  $R \in M$  מתקיים  $t(t(R)) = t(R)$ .

# מבוא למתמטיקה דיסקרטית

פרק 5 - עוצמות

תוכן העניינים

55 ..... 1. עוצמות

## עוצמות

## שאלות

1) ללא שימוש בפונקציית שקילות:

א. הוכיחו כי  $\mathbb{N}_{\text{odd}} = \{1, 3, 5, \dots\}$  ו- $\mathbb{N}_{\text{even}} = \{0, 2, 4, \dots\}$  שוות עוצמה.

ב. הוכיחו כי  $\mathbb{N} = \{1, 2, 3, \dots\}$  ו- $\mathbb{N}_{\text{even}} = \{0, 2, 4, \dots\}$  שוות עוצמה.

ג. הוכיחו כי  $\mathbb{N}^2 = \mathbb{N} \times \mathbb{N}$  שקולה ל- $\mathbb{N} = \{1, 2, 3, \dots\}$ .

ד. הוכיחו כי  $\mathbb{N} \sim \mathbb{Z}$ .

ה. הוכיחו כי  $\mathbb{N} \sim \mathbb{Q}^+$ , כאשר  $\mathbb{Q}^+$  היא קבוצת הרציונליים החיוביים.

ו. הוכיחו כי  $[0, 1] \sim [0, 3]$ .

ז. הוכיחו כי  $[0, 1] \sim [3, 4]$ .

ח. הוכיחו כי  $[0, 1] \sim [3, 5]$ .

ט. הוכיחו כי לכל שתי קבוצות  $A, B$ , מתקיים  $A \times B \sim B \times A$ .

2) הוכיחו את השקילויות הבאות באמצעות פונקציות חשי״ע ועל בין הקבוצות:  
(פונקציית שקילות)

א.  $(0, 2010) \sim (0, \infty)$

ב.  $[1, 3] \cup [4, 8] \sim [0, 1]$

ג.  $\{(x, y) \mid x^2 + y^2 = 1\} \sim \{(x, y) \mid x^2 + y^2 = 4\}$

ד.  $\mathbb{N} \sim \mathbb{Z}$

ה.  $\mathbb{N} \times \{0, 1\} \sim \mathbb{N}$

ו.  $(-1, 1) \sim \mathbb{R}$

ז.  $\mathbb{N} \times [0, 1) \sim [0, \infty)$

ח.  $(0, 1] \sim (0, 1)$

ט.  $[0, 1) \times [0, 1) \sim [0, 1)$

י.  $\{0, 1\}^{\mathbb{N}} \sim \{0, 1\}^{\mathbb{N}_{\text{even}}} \times \{0, 1\}^{\mathbb{N}_{\text{odd}}}$

יא.  $\{0, 1\}^{\mathbb{N}} \times \{0, 1\}^{\mathbb{N}} \sim \{0, 1, 2, 3\}^{\mathbb{N}}$

יב.  $\{0, 1\}^A \sim P(A)$

הגדרה: קבוצה  $A$  היא אינסופית אם קיימת קבוצה שחלקית לה ממש ושקולה לה.

היעזרו בהגדרה זו לפתרון שאלות 3-4.

(3) תהיינה  $A, B$  קבוצות. הוכיחו:

- א. אם  $A$  אינסופית, אז  $A \cup B$  אינסופית.  
 ב. אם  $A$  אינסופית וגם  $A \subseteq B$ , אז  $B$  אינסופית.

(4) תהיינה  $A, B$  קבוצות, ונתון כי  $A \cap B$  שקולה ל- $A$ . הוכיחו או הפריכו:

- א. אם  $A \cup B \neq B$ , אז  $A$  אינסופית.  
 ב. אם  $A \cup B \neq A$ , אז  $B$  אינסופית.  
 ג. אם  $A$  סופית, אז  $A \subseteq B$ .

(5) נגדיר יחס  $\sim$  בין קבוצות באופן הבא:  $(A, B) \in \sim \Leftrightarrow A, B$  שוות עוצמה. הוכיחו כי  $\sim$  הוא יחס שקילות.

(6) הוכיחו:

- א.  $\aleph_0 + n = \aleph_0$ , כאשר  $n \in \mathbb{N}$ .  
 ב.  $\aleph_0 + \aleph_0 = \aleph_0$ .  
 ג.  $3 \cdot \aleph_0 \cdot 2 \cdot \aleph_0 = \aleph_0$ .  
 ד.  $n \cdot \aleph_0 = \aleph_0$ , כאשר  $n \in \mathbb{N}$ .  
 ה.  $\aleph_0 \cdot \aleph_0 = \aleph_0$ .  
 ו.  $\aleph_0^n = \aleph_0$  (היעזרו במשפט קבי"ש).  
 ז. אם  $\aleph_0 \leq \alpha$ , אז  $\alpha = \alpha + 3$ .  
 ח.  $2^{\aleph_0} = \aleph_0^{\aleph_0}$ .  
 ט.  $\aleph_0^{\aleph_0} = 2^{\aleph_0}$ .  
 י.  $\aleph_0^{\aleph_0} > 2^{\aleph_0}$  (הדרכה: הסיקו מהסעיף הקודם כי  $\aleph_0^{\aleph_0} > \aleph_0^{\aleph_0}$ ).

7) גדירות היטב של אריתמטיקה של עוצמות.

א. תהיינה  $k_1, k_2$  עוצמות ויהיו  $A, B$  קבוצות, כך ש-  $|A| = k_1, |B| = k_2$ .

נגדיר פעולת הפרש בין עוצמות באופן הבא:  $k_1 - k_2 = |A - B|$ .

פעולה זו אינה מוגדרת היטב, כלומר התוצאות של ההפרש משתנות בהתאם לקבוצה ולא בהתאם למחלקה.

הציגו 2 דוגמאות לקבוצות שעוצמתן  $\aleph_0$ , אך עוצמת ההפרש שונה בכל אחת מהדוגמאות.

ב. הוכיחו כי אם מתקיים  $B \cap D = \emptyset \wedge A \cap C = \emptyset \wedge C \sim D \wedge A \sim B$ ,

אז  $(A \cup C) \sim (B \cup D)$ .

ג. הוכיחו כי אם  $C \sim D \wedge A \sim B$ , אז  $A \times C \sim B \times D$ .

8) הוכיחו כי לכל שלוש קבוצות  $A, B, C$  מתקיים:

א.  $A \times (B \times C) \sim (A \times B) \times C$

ב. אם  $B \cap C = \emptyset$ , אז  $A^B \times A^C \sim A^{(B \cup C)}$ , והראו כי  $B \cap C = \emptyset$  הכרחית.

ג.  $(A \times B)^C = A^C \times B^C$

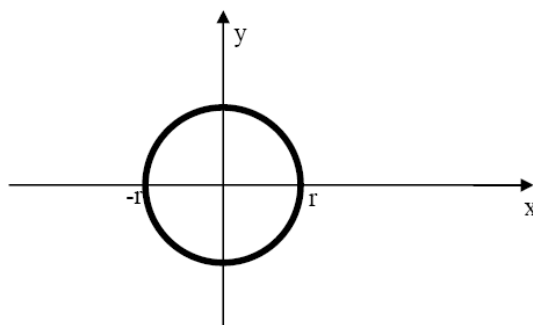
ד.  $(A^B)^C \sim A^{B \times C}$

9) הוכיחו כי הקבוצה  $A = \mathbb{Q}$ , קבוצת המספרי הרציונליים,

ו-  $B = \{f(x) = ax^2 + bx + c : a, b, c \in \mathbb{Q}\}$  שוות עוצמה.

10) מעגל במישור ברדיוס  $r$  (כאשר  $r > 0$  ממשי), שמרכזו בראשית הצירים, הוא קבוצת כל הנקודות  $(x, y)$  במישור המקיימות את המשוואה  $x^2 + y^2 = r^2$ , כמודגם בציור שלהלן.

הוכיחו שלכל  $r > 0$ , עוצמת מעגל ברדיוס  $r$  שמרכזו בראשית הצירים היא  $\aleph_0$ .



11) הוכיחו או הפריכו:

תהיינה  $A, B$  שתי קבוצות כלשהן. אם  $A \oplus B$  היא קבוצה מעוצמה  $\aleph_0$  וגם

$A \cap B$  היא קבוצה מעוצמה  $\aleph_0$ , אז  $A \cup B$  היא קבוצה מעוצמה  $\aleph_0$ .

**12** נגדיר  $P_2(\mathbb{N}) = \{A \subseteq \mathbb{N} \mid |A| = 2\}$ . כלומר,  $P_2(\mathbb{N})$  היא קבוצת כל תתי-קבוצות בנות שני אברים של הטבעיים. מהי עוצמת  $P_2(\mathbb{N})$ ? הוכיחו.

**13** נסמן ע"י  $\mathbb{N}$  את קבוצת המספרים הטבעיים  $\mathbb{N} = \{1, 2, 3, \dots\}$  וב-  $\mathbb{R}^+$  את הממשיים החיוביים.

א. מה העוצמה של הקבוצה  $A_4 = \{a \in \mathbb{R} \mid a^4 \in \mathbb{N}\}$ ?

למשל,  $1, \sqrt{5}, 2, \sqrt[4]{7} \in A_4$ .

ב. מה העוצמה של  $A = \{a \in \mathbb{R}^+ \mid \exists k \in \mathbb{N}, a^k \in \mathbb{N}\}$ ?

למשל,  $1, \sqrt{5}, 2, \sqrt[4]{7}, \sqrt[100]{3}, \sqrt[3]{4} \in A$ .

ג. הראו שקבוצה של מעגלים זרים במישור ניתנת לשידוך לקבוצה חלקית של טבעיים.

**14** תהי  $A = \left\{ x \in \mathbb{R} \mid \forall n \in \mathbb{N} \left( x < \frac{1}{n} \right) \wedge \exists n \in \mathbb{N} \left( x > -\frac{1}{n} \right) \right\}$ .

מה עוצמת  $A$ ?

**15** תהי  $A = \{(a, b) \mid a \in \mathbb{R}, b \in \mathbb{R}, a < b\}$ . כלומר,  $A$  היא קבוצת כל הקטעים

הפתוחים ב-  $\mathbb{R}$ .

מהי עוצמת  $A$ ? הוכיחו.

**16** נגדיר יחס  $S$  מעל  $\mathbb{R} \times \mathbb{R}$  באופן הבא:  $(x_1, x_2) S (y_1, y_2) \Leftrightarrow \lfloor x_1 \rfloor = \lfloor y_1 \rfloor$ .

כאשר  $S$  יחס שקילות (אין צורך להוכיח זאת).

הוכיחו כי קבוצת המנה  $(\mathbb{R} \times \mathbb{R}) / S$  היא מעוצמה  $\aleph_0$ .

**17** הוכיחו או הפריכו: לכל קבוצה  $A$  מתקיים  $A \times \mathbb{N} \sim A \times (\mathbb{N} - \{1\})$ .

**18** הוכיחו כי עוצמת הקבוצה  $(1, 2) \cup (2, 3) \cup (3, 4) \cup \dots = \bigcup_{n \in \mathbb{N}} (n, n+1)$  היא  $\aleph_0$ .

**19** תהי  $A$  קבוצה מעוצמה  $\aleph_0$  ויהי  $E$  יחס שקילות מעל  $A$ .

הוכיחו כי  $|E| = \aleph_0$ .

(20) הוכיחו או הפריכו :

$$(A \times B)^c \sim (A^c \times B) \cup (A \times B^c)$$

לכל זוג קבוצות  $A, B$  מתקיים

(21) פונקציית הסינוס  $\sin: \mathbb{R} \rightarrow \mathbb{R}$  היא פונקציה מחזורית בעלת מחזור של  $2\pi$ .

$$\text{כלומר, } \sin(x + 2\pi) = \sin(x), \text{ לכל } x \in \mathbb{R}.$$

$$\text{עבור } 0 \leq x \leq 2\pi \text{ מתקיים } \sin x = 0 \Leftrightarrow x \in \{0, \pi, 2\pi\}.$$

מצאו את עוצמת הקבוצה  $O_{\sin} = \{x \in \mathbb{R} \mid \sin x = 0\}$ . הוכיחו.

(22) האם קיימת קבוצה  $A$ , כך ש- $|P(A)| = \aleph_0$ ? הוכיחו.

(23) הוכיחו כי קבוצה בת-מניה של ישרים לא יכולה לכסות את המישור  $\mathbb{R}^2$ .

(24) קבעו האם לקבוצה אחת עוצמה גדולה יותר, או שהן שוות:

א.  $\{0,1\}^{\mathbb{R}}$ ,  $\{0,1\}^{P(\mathbb{R})}$

ב.  $P(\mathbb{R})^{\mathbb{N}}$ ,  $P(\mathbb{R})^{P(\mathbb{N})}$

ג.  $\mathbb{R}^{\mathbb{N}}$ ,  $\mathbb{N}^{\mathbb{R}}$

(25) חשבו את עוצמת הקבוצות הבאות:

א. קבוצת כל הסדרות האינסופיות של הטבעיים.

ב. קבוצת כל הסדרות האינסופיות העולות ממש של הטבעיים.

ג. קבוצת כל הסדרות הבינאריות האינסופיות.

ד. קבוצת כל הסדרות הבינאריות האינסופיות, שאין בהן את הרצף 10.

ה. קבוצת כל הסדרות הבינאריות האינסופיות, שאין בהן את הרצף 00.

ו. קבוצת כל הסדרות הבינאריות האינסופיות, שאין בהן את הרצף 10

וגם את הרצף 00.

ז. קבוצת כל היחסים מעל  $\mathbb{N}$ .

ח. קבוצת כל היחסים הרפלקסיביים מעל  $\mathbb{N}$ .

לפתרונות מלאים בסרטוני וידאו היכנסו לאתר [www.GooL.co.il](http://www.GooL.co.il)

# מבוא למתמטיקה דיסקרטית

פרק 6 - קומבינטוריקה בסיסית

תוכן העניינים

1. מבוא לקומבינטוריקה בסיסית ..... 60
2. קומבינטוריקה יותר לעומק ..... 66

## מבוא לקומבינטוריקה בסיסית

### שאלות

(1) חשבו, ללא מחשבון:

א.  $\frac{4! \cdot 7!}{0! \cdot 10!}$

ב.  $\frac{14! \cdot 20!}{10! \cdot 17!}$

(2) הוכיחו את הזהויות הבאות:

א.  $(n-2)!(n^2 - n) = n!$

ב.  $(n-1)!n^2 + n! = (n+1)!$

ג.  $\frac{1}{(n-1)!} = \frac{(n+2)^2}{(n+2)!} + \frac{n^2 - 2}{(n+1)!}$

(3) חשבו ללא מחשבון:

א.  $\binom{5}{3}$

ב.  $\binom{4}{1}$

ג.  $\binom{10}{0}$

ד.  $\frac{1}{13} \binom{14}{11}$

(4) הוכיחו את הזהויות הבאות:

א.  $\binom{n}{n} = \binom{n}{0} = 1$

ב.  $\frac{k}{n} \binom{n}{k} = \binom{n-1}{k-1}$

ג.  $\frac{n+1}{k+1} \binom{n}{k} = \binom{n+1}{k+1}$

ד.  $\binom{2n}{n} + \binom{2n}{n-1} = \binom{2n+1}{n}$

- 5) ענו על הסעיפים הבאים :
- א. כמה תוצאות אפשריות יש להטלת קובייה ואחר כך סביבון?  
רשמו את כל התוצאות.
- ב. כמה תוצאות אפשריות יש להטלת קובייה ואחר כך סביבון ואחר כך מטבע? רשמו את כל התוצאות.
- ג. עושים ניסוי ומטילים מטבע.  
אם יצא עץ אז מטילים סביבון ואם יצא פלי אז מטילים שוב את המטבע ולאחר מכן סביבון.  
כמה תוצאות אפשריות לניסוי?  
למשל (פלי, פלי, גדול) ו-(עץ, היה) הן תוצאות אפשריות.  
רשמו את כל התוצאות.
- 6) ענו על הסעיפים הבאים :
- א. מהאותיות ב, ג, ד, ה ניצור מילה בת שתי אותיות, לא בהכרח בעלת משמעות. רשמו את כל המילים האפשריות ואשרו עם עיקרון הכפל.
- ב. מהאותיות א, ב, ג, ד, ה ניצור מילה בת שלוש אותיות, לא בהכרח בעלת משמעות. כמה מהמילים הנ"ל מתחילות באות א וגם א מופיעה פעם אחת בדיוק?  
(רמז : סעיף קודם)
- 7) במסעדה מציעים ארוחה עסקית, המורכבת ממנה ראשונה, עיקרית ושתייה. המנה הראשונה יכולה להיות סלט ירקות, סלט פטריות, סלט כבד קצוץ או מרק עוף. המנה העיקרית יכולה להיות סטייק אנטרקוט, שניצל, כבד אווז, דג, לזניה טבעונית, או שניצל מהצומח, ולשתייה מוצע, קפה, תה, לימונדה או קולה.
- א. כמה ארוחות אפשריות יש?  
ב. כמה ארוחות אפשריות יש אם אין שתיה חמה?  
ג. כמה ארוחות אפשריות יש למסעדה להציע לסועדת טבעונית?
- 8) כמה תת קבוצות יש לקבוצה  $A = \{1, 2, 3, 4, 5, 6, 7\}$ ,
- א. בנות שלושה איברים? רשמו את כולן.  
ב. בנות ארבעה איברים? השוו לסעיף א'.  
ג. רשמו את כל התמורות של 0001111 והשוו לסעיפים קודמים.  
ד. בכמה תמורות של המספרים 001122222222 כל 0 חייב להופיע ליד 1?
- 9) בכמה אופנים שונים ניתן להרכיב זוג מתלמידי כיתות א', אם בכיתה א' יש 1 יש 20 בנים ובכיתה א' 2 יש 15 בנות, כך ש :
- א. ללא הגבלה.  
ב. זוג מעורב (בן ובת).  
ג. זוג חד מיני (שני בנים, או שתי בנות).

**10** בלוטו יש 45 מספרים וצריך לנחש 6 מספרים ואת המספר החזק מתוך הקבוצה  $\{1, 2, 3, 4, \dots, 10\}$ . כמה אפשרויות יש?

**11** בכמה אופנים שונים ניתן לבחור מספר תלת ספרתי כך ש:  
 א. ללא הגבלה (זכרו שמספר לא יכול להתחיל באפס).  
 ב. כל ספרותיו שונות.  
 ג. כל ספרותיו שונות וסדר הספרות לא משנה?  
 (למשל 123 ו-321 נחשבים אותו דבר)  
 ד. כל ספרותיו שונות וגם בסדר יורד. כלומר, ספרת המאות גדולה או שווה מספרת העשרות גדולה או שווה מספרת היחידות.  
 ה. כל ספרותיו שונות וגם בסדר עולה. כלומר, ספרת המאות קטנה או שווה מספרת העשרות קטנה או שווה מספרת היחידות.

**12** כמה מספרים מורכבים מהמספרים 1, 2, 3, 4, 5, 6, 7, יש, כך ש:  
 א. באורך 7?  
 ב. באורך 7 וכל ספרה מופיעה פעם אחת לכל היותר?  
 ג. באורך 7 וכל ספרה מופיעה פעם אחת לפחות?

**13** בכמה אופנים שונים ניתן להשיב 5 זוגות נשואים על ספסל בן 10 מקומות (ענו גם לגבי שולחן עגול) כך ש:  
 א. ללא הגבלה.  
 ב. כל אישה תשב לצד בן-זוגה.  
 ג. גבר ישב רק ליד אישה.  
 ד. אף שתי נשים לא ישבו זו לצד זו ואף שני גברים לא ישבו זה לצד זה.

**14** כמה מספרים שונים בני חמש ספרות ניתן להרכיב מהספרות 1, 2, 3, 4, 5, 6, 7, כך ש:

- א. ללא הגבלה.
- ב. המספר מתחיל בספרה 2.
- ג. המספר לא מתחיל בספרה 2.
- ד. כל הספרות שונות.
- ה. הספרות 1 וגם 2 לא מופיעות.
- ו. בדיוק אחת מן הספרות 1 או 2 מופיעה.
- ז. ספרות 1 וגם 2 מופיעות.
- ח. חזרו על סעיפים ה-ז כאשר כל הספרות שונות.
- ט. כל הספרות שונות והספרות 1, 2 מופיעות צמודות.
- י. כל הספרות שונות והספרות 1, 2 מופיעות ולא צמודות.
- יא. כל הספרות שונות והספרות 1, 2, 3 מופיעות וצמודות.
- יב. כמו סעיף יא וגם הספרות 6, 7 מופיעות וצמודות.
- יג. כמו סעיף יא וגם הספרות 6, 7 מופיעות ולא צמודות.

15) בכמה אופנים שונים ניתן להרכיב קוד סודי המורכב מארבע ספרות מתוך הספרות  $0, 1, 2, 3, \dots, 9$ , כך ש:

- ללא הגבלה?
  - הקוד מגדיר מספר זוגי?
  - הקוד מגדיר מספר המתחלק בחמש?
  - אין בקוד ספרות זהות?
  - יש בקוד לפחות שתי ספרות זהות?
  - יש בקוד בדיוק שתי ספרות זהות?
  - אין בקוד את הספרה 5?
  - הספרה 5 חייבת להופיע בקוד?
  - יש בקוד לפחות אחד מהספרות 4, 5?
  - אין בקוד לא את הספרה 4 ולא את הספרה 5?
  - אם יש את הספרה 5 אז אין ספרה יותר גדולה מ-5?
- הדרכה: רשמו שני מספרים המקיימים את התנאי ושניים שאינם מקיימים את התנאי וכתבו מהו המשלים של סעיף זה: נסחו זאת על דרך החיוב. כלומר, בלי להשתמש במילים 'אין' ו-'לא'.

16) נתונה הקבוצה  $A = \{1, 2, 3, \dots, 17\}$ . כמה תת קבוצות יש ל- $A$  כך ש:

- ללא הגבלה?
- בנות 3 איברים?
- בעלות 3 איברים לפחות?
- מכילות רק מספרים זוגיים? רק אי זוגיים?
- מכילים רק מספרים מאותה זוגיות?
- מכילות אי זוגי אחד לפחות?
- מכילות זוגי אחד לפחות וגם אי זוגי אחד לפחות?
- אם הן מכילות את 1 אז מכילות גם את 2? (סעיף קשה; אפשר לנסות בעזרת משלים)
- מכילות ממש את  $\{1, 2, 3\}$ .

17) בכמה אופנים שונים ניתן להכניס 7 כדורים ל-13 תאים, כך ש:

- הכדורים שונים ומותר יותר מכדור בתא?
- הכדורים זהים ומותר יותר מכדור בתא?
- הכדורים שונים ואסור יותר מכדור בתא?
- הכדורים זהים ואסור יותר מכדור בתא?
- הכדורים שונים ויש תא יחיד ובו שני כדורים ובכל היתר כדור יחיד?
- הכדורים זהים ויש תא יחיד ובו שני כדורים ובכל היתר כדור יחיד?

- 18** נתונים חמישה כדורים ונתונים שבעה צבעים שונים (למשל שחור, לבן, אפור, צהוב אדום כחול וסגול).  
בכמה אופנים שונים ניתן לצבוע את הכדורים ולסדרם בשורה אם:
- סדר הכדורים בשורה משנה.
  - סדר הכדורים בשורה לא משנה.
- כלומר, ארבעה כדורים שחורים ואחד לבן זה נחשבו אותו דבר לא משנה היכן הלבן ממוקם.
- 19** עבור  $A = \{1, 2, 3\}$   $B = \{x, y\}$ , חשבו כמה פונקציות יש מ- $A$  ל- $B$  ומ- $B$  ל- $A$ , ואשרו עם עיקרון הכפל.

## תשובות סופיות

- (1) א.  $\frac{1}{30}$  ב.  $\frac{1001}{285}$
- (2) הוכחה.
- (3) א. 10 ב. 4 ג. 1 ד. 28
- (4) הוכחה.
- (5) א. 24 ב. 48 ג. 12
- (6) א. 16 ב. 16 ג. 16
- (7) א. 96 ב. 48 ג. 16
- (8) א. 35 ב. 35 ג. 35 ד. 180
- (9) א. 595 ב. 300 ג. 295
- (10) 81,450,600
- (11) א. 900 ב. 648 ג.  $\binom{10}{3}$  ד.  $\binom{10}{3}$  ה.  $\binom{9}{3}$
- (12) א.  $\binom{7}{7}$  ב. אין ג. אין
- (13) א. ספסל: 10!, מעגל: 9! ב. ספסל: 5!·2<sup>5</sup>, מעגל: 4!·2<sup>5</sup> ג. ספסל: 2!(5!)<sup>2</sup>, מעגל: 4!·5! ד. ספסל: 2!(5!)<sup>2</sup>, מעגל: 4!·5!
- (14) א. 7<sup>5</sup> ב. 7<sup>4</sup> ג. 6·7<sup>4</sup> ד. 3·4·5·6·7 ה. 5<sup>5</sup>
- ו.  $2(6^5 - 5^5)$  ז.  $7^5 - 2 \cdot 6^5 + 5^5$  ח. 5! (ה) ח. 10·5! (ו)
- ט. 4·5! י. 6·5! יא. 216 יב. 24 יג. 12
- (15) א. 10<sup>4</sup> ב. 5·10<sup>3</sup> ג. 2·10<sup>3</sup> ד. 10·9·8·7
- ה.  $10^4 - 10 \cdot 9 \cdot 8 \cdot 7$  ו.  $9^4 \cdot \binom{4}{2} \cdot 10 \cdot 9 \cdot 8$
- ח.  $10^4 - 9^4$  ט.  $10^4 - 8^4$  י. 8<sup>4</sup> יא.  $9^4 + 6^4 - 5^4$
- (16) א. 2<sup>17</sup> ב. 680 ג. 130,918 ד. זוגיים: 2<sup>8</sup>, אי זוגיים: 2<sup>9</sup>, אותה זוגיות: 768
- ה. לפחות אי זוגי אחד: 130,816, לא מאותה זוגיות: 130,304
- ו. 98,304 ז. 16,383
- (17) א. 13<sup>7</sup> ב.  $\binom{19}{7}$  ג.  $\binom{131}{61}$  ד.  $\binom{13}{7}$
- ה.  $13 \binom{7}{2} \binom{12}{5} 5!$  ו.  $13 \cdot \binom{16}{5}$
- (18) א. 7<sup>5</sup> ב.  $\binom{11}{5}$
- (19) מ-A ל-B: 8, מ-B ל-A: 9

## קומבינטוריקה יותר לעומק

### שאלות

- (1) בכמה אופנים ניתן לסדר 10 אנשים בשורה כך ש:
- ללא הגבלה.
  - אבי ובני סמוכים.
  - אבי, בני וגדי סמוכים.
  - אבי ובני לא סמוכים.
  - אבי ובני סמוכים וגם גדי ודני סמוכים.
  - אבי ובני סמוכים וגדי ודני לא סמוכים.
- (2) בכיתה בה יש 10 בנים ו-15 בנות יש להרכיב נבחרת כדורסל בה יש לפחות שני בנים ולפחות שתי בנות. בכמה דרכים ניתן לעשות זאת?
- (3) בכמה אופנים שונים ניתן להניח 8 צריחים על לוח שחמט  $8 \times 8$  מבלי שאף צריח יאיים על חברו כך ש:
- (צריח מאיים על חברו אם הוא נמצא באותה שורה או באותה עמודה של חברו)
- כל הצריחים הם לבנים.
  - שלושה צריחים הם לבנים וחמישה הם שחורים.
  - הצריחים נלקחים מתוך שקית ובה מלאי בלתי מוגבל של צריחים לבנים ומלאי בלתי מוגבל של צריחים שחורים.
- (4) בכמה מספרים 6 ספרתיים מופיעה הספרה:
- 0 פעם אחת בדיוק.
  - 0 פעם אחת לפחות.
  - 7 פעם אחת לפחות.
  - 7 פעם אחת בדיוק.
- יש לזכור שמספר לא יכול להתחיל בספרה 0.
- (5) ענו על הסעיפים הבאים:
- יהי  $n$  טבעי. בכמה תת קבוצות של  $\{1, 2, 3, \dots, 2n\}$  יש אי זוגי אחד לפחות?
  - בכמה תת קבוצות של  $\{1, 2, 3, \dots, 2n\}$  יש לפחות  $n+1$  איברים?

- 6) בכמה אופנים שונים ניתן לחלק 10 לימונדות זהות, כוס קולה 1 וכוס קינלי 1 ל-4 תלמידים צמאים, כך שכל תלמיד מקבל לפחות משקה אחד והקולה והקינלי ניתנים לתלמידים שונים?
- 7) בכמה דרכים ניתן לחלק 400 כדורים זהים ל-3 תאים, כך ש:
- יש תא ובו יותר מ-200 כדורים.
  - בכל תא מספר זוגי של כדורים.
  - בשני תאים מתוך השלוש מספר אי זוגי של כדורים ובתא אחד מספר זוגי של כדורים.
- 8) 7 אנשים נכנסים למעלית בבניין בן 13 קומות. בכמה אופנים הם יכולים ללחוץ על כפתורי המעלית כך ש:
- המעלית תעצור בקומה החמישית? (יתכן ותמשיך הלאה משם)
  - המעלית תעצור בקומה החמישית לכל היותר.
  - המעלית תגיע לפחות עד הקומה החמישית.
  - המעלית תעצור בקומה החמישית (ולא תמשיך משם הלאה).
- 9) בכמה דרכים ניתן לחלק  $n$  כדורים לבנים זהים ו- $n$  כדורים צבעוניים (שונים) ל- $2n$ , כך שבכל תא יהיה:
- לכל היותר כדור אחד.
  - לכל היותר כדור לבן אחד ואין מגבלה על מספר הצבעוניים.
  - לכל היותר כדור צבעוני אחד ואין הגבלה על מספר הלבנים.
  - מספר שווה של לבנים וצבעוניים.
- 10) במלבן בן  $k$  שורות ו- $m$  עמודות יש לסמן  $\times$  או  $\circ$  בכל משבצת.
- הראו כי יש  $(2^m - 1)^k$  דרכים לעשות זאת, כך שבכל שורה יופיע  $\times$  אחד לפחות.
  - בכמה דרכים ניתן לעשות זאת, כך שיופיע  $\circ$  אחד לפחות בכל עמודה.
  - הסיקו כי  $2^{mk} \leq (2^m - 1)^k + (2^k - 1)^m$ .
- 11) ענו על הסעיפים הבאים:
- כמה תמורות של  $1, 2, 3, \dots, n$  מספר 2 מופיע בין 1 ל-3? (לאו דווקא צמודים. למשל, עבור  $n = 7$  התמורה 4352981 חוקית, כי 2 נמצא בין 1 ל-3)
  - בכמה תמורות של  $1, 2, 3, \dots, 5$  מימין למספר 3 אין מספרים קטנים מ-3. (למשל 24135 חוקית ואילו 43152 לא חוקית)

- 12** ענו על הסעיפים הבאים :
- א. בכמה אופנים שונים ניתן לחלק 12 אנשים לשלושה זוגות ושתי שלשות?  
 ב. כמו סעיף א, אך בנוסף דני ודנה לא נמצאים באותה קבוצה.
- 13** כמה פתרונות בשלמים אי-שליליים יש לכל אחת מהמשוואות הבאות?
- א.  $x_1 + x_2 + \dots + x_7 = 20$   
 ב.  $x_1 + x_2 + 5x_3 + x_4 = 14$   
 ג.  $(x_1 + x_2 + x_3)(x_4 + x_5 + x_6) = 18$
- 14** בכמה דרכים ניתן לבחור ועדה בת  $n$  אנשים מתוך  $n$  זוגות נשואים, כך ש :
- א. בוועדה לא ישתתף אף זוג נשוי.  
 ב. מספר הגברים יהיה שווה למספר הנשים.  
 ג. מספר הגברים יהיה קטן ממש ממספר הנשים.
- 15** מצאו כמה פונקציות  $f: \{1, 2, 3, \dots, 3n-1, 3n\} \rightarrow \{1, 2, 3, \dots, n-1, n\}$  מקיימות את התנאי הבא: לכל איבר בתמונה יש בדיוק 3 מקורות.
- 16** מה מספר הדרכים לפזר 50 כדורים אדומים ו-20 כדורים כחולים ל-10 תאים, כך שבכל תא מספר הכדורים האדומים יהיה לפחות כמספר הכדורים הכחולים?
- 17** בכמה דרכים ניתן לחלק קבוצה בגודל  $2n$  לקבוצה בגודל  $n$  ולזוגות? (ניתן להניח כי  $n$  זוגי)
- 18** בכמה דרכים ניתן לסדר בשורה 8 פילים שונים, 2 שועלים זהים ושתי תרנגולות זהות, כך שהפילים מסודרים משמאל לימין על פי משקלם בסדר עולה, ואף שועל לא יהיה צמוד לתרנגולת?
- 19** בכמה דרכים ניתן לחלק 100 כדורים לבנים ו-100 כדורים צבעוניים (כל אחד בצבע שונה) ל-250 תאים, כך שיתקיימו שני התנאים הבאים: יהיה לפחות תא אחד שמכיל יותר מכדור לבן אחד, ויהיה לפחות תא אחד שמכיל יותר מכדור צבעוני אחד.
- 20** בכמה דרכים ניתן לסדר  $n$  גברים ו- $n$  נשים במעגל כך שבני אותו מין לא ישבו זה לצד זה? כנ"ל לגבי שורה.

- (21)** יש לבחור קבוצה של שישה ילדים מבין תלמידי כיתות א-1 ו-2א, באופן ששלושה מהם יהיו מ-1א ושלושה מ-2א. מספר הבנים בקבוצה צריך להיות שווה למספר הבנות בקבוצה (3 ו-3). ב-1א יש 10 בנים ו-15 בנות וב-2א יש 15 בנים ו-10 בנות. בכמה אופנים ניתן לבחור את הקבוצה?
- (22)** בכמה קבוצות של  $n$  כדורים ב-10 צבעים יש לפחות כדור אחד מכל צבע?
- (23)** כמה פונקציות  $f: \{1, 2, \dots, n\} \rightarrow \{1, 2, \dots, n\}$  (כאשר  $n \geq 1$ ) מקיימות את התנאי  $f(k) \neq f(k+1)$  לכל  $1 \leq k \leq n-1$ ?
- (24)** כמה פונקציות  $f: \{1, 2, 3, \dots, n\} \rightarrow \{1, 2, 3, \dots, n\}$  חח"ע ועל יש, המקיימות  $f(k) - k$  זוגי לכל  $k \in \{1, 2, 3, \dots, n\}$ ?
- (25)** בכמה דרכים ניתן לחלק 60 כדורים צבעוניים (כל אחד בצבע שונה) ו-90 כדורים לבנים זהים ל-100 תאים, כך שיתקיימו שני התנאים הבאים גם יחד: יהיה לפחות תא אחד שמכיל יותר מכדור צבעוני אחד וכמו כן בכל תא יהיו לכל היותר 50 כדורים לבנים.
- (26)** בכמה דרכים ניתן לחלק 4 בנות, 2 תפוזים, ו-4 תפוחים ל-10 אנשים, כך שכל אחד יקבל בדיוק פרי אחד? שימו לב שפירות מאותו סוג נחשבים זהים.
- (27)** בכמה דרכים ניתן לבנות שורה מ- $k \geq 0$  כדורים לבנים זהים ו- $m \geq 0$  כדורים צבעוניים שונים (ושונים מלבן)?
- (28)** כמה תת קבוצות בגודל 7 יש לקבוצה  $A = \{1, 2, 3, \dots, 12, 13\}$ , שיש בהם שני איברים עוקבים?
- (29)** תהי  $A_n = \{1, 2, 3, \dots, n\}$ , כאשר  $n \in \mathbb{N}_{odd}$ , ותהי  $a_1, a_2, \dots, a_n$  תמורה כלשהי של  $A_n$ . הוכיחו כי המכפלה  $(a_1 - 1)(a_2 - 2) \cdots (a_n - n)$  בהכרח זוגית (יש לפתור).
- (30)** מטילים  $n$  קוביות. כמה תוצאות יש אם:
- הקוביות שונות.
  - הקוביות זהות.

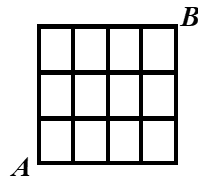
31 נתונה הקבוצה  $A = \{1, 2, 3, \dots, n\}$ .

כמה זוגות של קבוצת  $(C, D)$ ,  $C, D \subseteq A$ , כך ש:

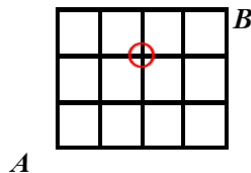
- ללא הגבלה. עבור  $A = \{1, 2\}$ , רשמו את כל הפתרונות.
- $C \cap D = \emptyset$ . עבור  $A = \{1, 2\}$ , רשמו את כל הפתרונות.
- $C \subseteq D$ . עבור  $A = \{1, 2\}$ , רשמו את כל הפתרונות.
- $C \cup D = A$ . עבור  $A = \{1, 2\}$ , רשמו את כל הפתרונות.
- אם  $2 \in C$ , אז  $2 \in D$  (עבור  $A = \{1, 2, 3\}$ , הדגימו זוג שמקיים את הדרישה וזוג שאינו מקיים את הדרישה).
- אם יש מספר אי זוגי ב- $C$ , אז יש כזה גם ב- $D$  (שימו לב שלא נתון ש- $n$  הוא זוגי).

32 חרגול נמצא בנקודה  $A$  בשריג המתואר להלן. בכל שלב יכול החרגול להתקדם צעד אחד ימינה או צעד אחד למעלה.

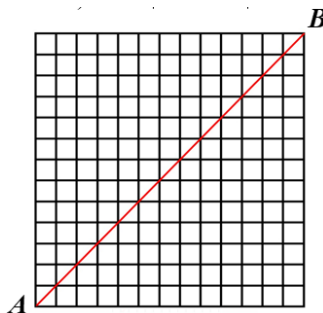
א. בכמה אופנים שונים יכול החרגול להגיע מנקודה  $A$  לנקודה  $B$ ?



ב. בכמה אופנים הוא יכול לעשות זאת מבלי לעבור דרך הנקודה המסומנת להלן  $(2, 2)$ ?



- 33** החרגול החביב מהשאלה הקודמת לא התעייף (מדובר בחרגול ספורט) ונמצא עכשיו בנקודה  $A$  בשריג  $n \times n$  המתואר להלן ( $13 \times 13$  להמחשה). תזכורת: בכל שלב יכול החרגול להתקדם צעד אחד ימינה או צעד אחד למעלה. בכמה דרכים יכול החרגול להגיע מנקודה  $A$  לנקודה  $B$ ? (שימו לב שהשריג בשאלה הוא  $n \times n$ )
- ללא הגבלה.
  - מבלי לעבור דרך אף אחד מהנקודות  $(5,9), (7,3)$ ? (מה המשלים של הסעיף?)
  - מבלי לעבור דרך אף אחד מהנקודות  $(7,9), (5,3)$ ?
  - מבלי לגעת באלכסון האדום? (פרט לנקודת ההתחלה ונקודת הסיום)



- 34** למורה צילה מאגר בלתי מוגבל של חרוזים בשלושה צבעים: אדום, צהוב וירוק (חרוזים מאותו צבע נחשבים זהים). בכיתה ג' 27 תלמידים. בשיעור מלאכה המורה צילה נותנת לכל ילד שקית והילד בוחר חמישה חרוזים ומכניס לשקית. בסוף השיעור המורה מכניסה את כל השקיות למחסן. כמה תכולות מחסן אפשריות?

## תשובות סופיות

- (1) א.  $10!$  ב.  $2!9!$  ג.  $3!8!$  ד.  $8!9!$  ה.  $4!8!$  ו.  $14!8!$   
(2) שתי דרכים.
- (3) א.  $8!$  ב.  $8! \binom{8}{3}$  ג.  $8! \cdot 2^8$
- (4) א.  $5 \cdot 9^5$  ב.  $9 \cdot 10^5 - 9^6$  ג.  $9 \cdot 10^5 - 8 \cdot 9^5$  ד.  $9^5 + 5 \cdot 8 \cdot 9^4$
- (5) א.  $2^{2n} - 2^n$  ב.  $|A| = \frac{2^{2n} - \binom{2n}{n}}{2}$
- (6)  $4 \cdot 3 \cdot \binom{11}{3}$
- (7) א.  $3 \cdot \binom{201}{2}$  ב.  $\binom{202}{2}$  ג.  $3 \cdot \binom{201}{2}$
- (8) א.  $13^7 - 12^7$  ב.  $5^7$  ג.  $13^7 - 4^7$  ד.  $5^7 - 4^7$
- (9) א.  $\binom{2n}{n} n!$  ב.  $\binom{2n}{n} \cdot (2n)^2$  ג.  $\binom{2n}{n} \cdot n! \cdot \binom{3n-1}{n}$  ד.  $(2n)^2$
- (10) א. ראו בסרטון. ב.  $(2^k - 1)^m$  ג. שאלת הוכחה.
- (11) א.  $\frac{1}{3} 5!$  ב.  $\frac{1}{3} 5!$
- (12) א.  $\binom{12}{2} \binom{10}{2} \binom{8}{2} \binom{6}{3} \binom{3}{3} \cdot \frac{1}{3!} \cdot \frac{1}{2!}$
- ב.  $\binom{12}{2} \binom{10}{2} \binom{8}{2} \binom{6}{3} \binom{3}{3} \cdot \frac{1}{3!} \cdot \frac{1}{2!} - \left( \binom{10}{2} \binom{8}{2} \binom{6}{3} \binom{3}{3} \cdot \frac{1}{2!} \cdot \frac{1}{2!} + 10 \binom{9}{2} \binom{7}{2} \binom{5}{2} \cdot \frac{1}{3!} \right)$
- (13) א.  $\binom{26}{20} \binom{26}{6}$  ב.  $\binom{16}{2} + \binom{11}{2} + \binom{6}{2}$  ג.  $2 \left[ 3 \cdot \binom{20}{2} + \binom{4}{2} \cdot \binom{11}{2} + \binom{5}{2} \cdot \binom{8}{2} \right]$
- (14) א.  $2^n$  ב.  $\binom{n}{\frac{n}{2}}$  ג.  $n$  זוגי:  $\frac{\binom{2n}{n} - \binom{n}{\frac{n}{2}}}{2}$ ,  $n$  אי זוגי:  $\frac{\binom{2n}{n}}{2}$
- (15)  $\frac{(3n)!}{6^n}$
- (16)  $\binom{29}{9} \binom{39}{9}$
- (17)  $\frac{(2n)!}{n! \left(\frac{n}{2}\right)! 2^{\frac{n}{2}}}$

1638 (18)

$$\left( \binom{349}{100} - \binom{250}{100} \right) \left( 250^{50} - \frac{250!}{200!} \right) \quad (19)$$

$$2(n!)^2 \quad (20)$$

$$\binom{10}{3}^2 + \binom{10}{2}^2 + \binom{15}{1}^2 + \binom{10}{1} \binom{15}{2}^2 + \binom{15}{3}^2 \quad (21)$$

$$\binom{n-1}{9} \quad (22)$$

$$n(n-1)^{n-1} \quad (23)$$

$$\left[ \frac{n}{2} \right]! \left[ \frac{n}{2} \right]! \quad (24)$$

$$\left( 100^{60} - \frac{100!}{40!} \right) \cdot \left( \binom{189}{90} - 100 \cdot \frac{138}{39} \right) \quad (25)$$

$$\frac{10!}{4!4!2!} \quad (26)$$

$$\frac{(m+k)!}{k!} \quad (27)$$

$$2^{13} - 1 \quad (28)$$

(29) שאלת הוכחה.

$$\binom{n+5}{5} \quad \text{ב.} \quad 6^n \quad \text{א.} \quad (30)$$

$$4^n - \left( 2^n - 2^{\lfloor \frac{n}{2} \rfloor} \right) 2^{\lfloor \frac{n}{2} \rfloor} \quad \text{ג.} \quad 3 \cdot 4^{n-1} \quad \text{ה.} \quad 3^n \quad \text{ד.} \quad 3^n \quad \text{ג.} \quad 3^n \quad \text{ב.} \quad 4^n \quad \text{א.} \quad (31)$$

$$17 \quad \text{ב.} \quad \binom{7}{4} \quad \text{א.} \quad (32)$$

$$|\bar{A} \cap \bar{B}| = \binom{2n}{n} - \left( \binom{10}{3} \binom{2n-10}{n-3} + \binom{14}{5} \binom{2n-14}{n-5} \right) \quad \text{ב.} \quad \binom{2n}{n} \quad \text{א.} \quad (33)$$

$$|\bar{A} \cap \bar{B}| = \binom{2n}{n} - \left( \binom{8}{3} \binom{2n-8}{n-3} + \binom{16}{7} \binom{2n-16}{n-7} - \binom{8}{5} \binom{8}{2} \binom{2n-16}{7} \right) \quad \text{ג.}$$

$$\frac{1}{n+1} \binom{2n}{n} \quad \text{ד.}$$

$$\binom{47}{20} \quad (34)$$

# מבוא למתמטיקה דיסקרטית

פרק 7 - הבינום של ניוטון

תוכן העניינים

74 ..... 1. הבינום של ניוטון

## הבינום של ניוטון

## שאלות

(1) הוכיחו אלגברית וקומבינטורית את הזהות  $\sum_{k=0}^n \binom{n}{k} 2^k = 3^n$

(2) הוכיחו לכל  $n \geq 0$  את הזהות  $6^n = \sum_{k=0}^n \binom{n}{k} 2^{2n-k}$

(3) הוכיחו את השוויון

$$2^n = 3^n - n3^{n-1} + \binom{n}{2} 3^{n-2} - \dots + (-1)^k \binom{n}{k} 3^{n-k} + \dots + (-1)^n \binom{n}{n} 3^0$$

(4) הוכיחו שלכל  $n$  טבעי מתקיים  $\sum_{k=0}^n \binom{2n+1}{k} = 2^{2n}$

(5) הוכיחו בדרך אלגברית וקומבינטורית את הזהות  $\binom{m+n}{2} = \binom{n}{2} + \binom{m}{2} + mn$

(6) הוכיחו כי  $\binom{2n}{n}$  זוגי לכל  $n \in \mathbb{N}$

(7) הוכיחו כי  $\sum_{k=1}^n k \binom{n}{k} 2^{k-1} = \frac{n}{3} \cdot 3^n$

(8) הוכיחו כי  $\forall x, y, n \in \mathbb{N}^+, \binom{x+y}{n} = \sum_{k=0}^n \binom{x}{k} \binom{y}{n-k}$

(9) הוכיחו את השוויון  $\sum_{k,j=0}^n \binom{n}{k} \binom{n}{j} \binom{n}{k+j} = \binom{3n}{n}$

(10) הוכיחו בדרך אלגברית וקומבינטורית את הזהות  $\binom{r}{m} \binom{m}{k} = \binom{r}{k} \binom{r-k}{m-k}$

$$\binom{n}{k} + 2\binom{n}{k+1} + \binom{n}{k+2} = \binom{n+2}{k+2} \quad (11) \text{ הוכיחו שלכל } n \geq 0 \text{ ולכל } 0 \leq k \leq n \text{ מתקיים}$$

(12) הוכיחו אלגברית וקומבינטורית את הזהות

$$(2n-1) \cdot (2n-3) \cdots 1 = \frac{\binom{2n}{2} \cdot \binom{2n-2}{2} \cdots \binom{2}{2}}{n!}$$

$$\sum_{k=1}^n k(n-k) \binom{2n}{k} \binom{3n}{n-k} = 6n^2 \binom{5n-2}{n-2} \quad (13) \text{ הוכיחו את הזהות}$$

$$\sum_{n=0}^N \binom{k-1+n}{n} = \binom{k+N}{N} \quad (14) \text{ הוכיחו את השוויון}$$

$$(15) \text{ הוכיחו כי אם } n > 0 \text{ זוגי, אז } 2^n > \binom{n}{\frac{n}{2}}$$

$$(16) \text{ כמה מבין המספרים בפיתוח הבינום } (\sqrt{2} + \sqrt[4]{7})^{80} \text{ שלמים?}$$

$$(17) \text{ הוכיחו כי לכל } n \text{ טבעי מתקיים } n^n - (n-1)^n = \sum \binom{n}{i} (n-1)^{n-i}$$

לפתרון מלא בסרטוני וידאו היכנסו לאתר [www.GooL.co.il](http://www.GooL.co.il)

# מבוא למתמטיקה דיסקרטית

פרק 8 - הכלה והדחה

תוכן העניינים

76 ..... 1. הכלה והדחה.

## הכלה והדחה

### שאלות

- (1) כמה מילים באורך  $n$  יש מעל הא"ב  $\{A, B, C, D\}$ , כך שהאותיות  $A, B$  חייבות להופיע?
- (2) לארוחת ערב הוזמנו חמישה אנשים, להם המארח קנה 10 מתנות שונות. בכמה דרכים ניתן לחלק את המתנות בין האורחים, כך שכל אורח יקבל לפחות פרס אחד?
- (3) בקייטנת ההשקעות הלא-הגיוניות יש חמישה קורסים. בכל אחד מחמשת הקורסים רשומים בדיוק 55 ילדים. לכל זוג קורסים יש בדיוק 44 ילדים שרשומים לשניהם, לכל שלושה מהקורסים יש בדיוק 33 ילדים שרשומים לשלושתם, ולכל ארבעה מהקורסים יש בדיוק 22 ילדים שרשומים לארבעתם. הוכיחו כי יש לפחות ילד אחד שרשום לכל חמשת הקורסים בו זמנית.
- (4) א. בכמה מספרים קטנים ממיליון סכום הספרות הוא 23 בדיוק?  
(שאלה זו מופיעה גם בפרק על פונקציות יוצרות)  
ב. בכמה מספרים קטנים ממיליון סכום הספרות הוא 31 בדיוק?  
ג. בכמה מספרים קטנים ממיליון סכום הספרות הוא 23 לכל היותר?
- (5) קובייה הוטלה 8 פעמים ורשמו את התוצאות כסדרה של 8 מספרים. מה מספר האפשרויות לסדרות באורך 8 של הטלות, שבהן יופיעו כל ששת המספרים מ-1 עד 6 (כל מספר לפחות פעם אחת)?
- (6) במערכת שנה א של התוכנית למדעי המחשב באקדמיה המכללתית של תל-יפו-אביב יש חמישה קורסים. בכל אחד מחמשת הקורסים רשומים בדיוק 40 תלמידים. לכל זוג קורסים יש בדיוק 32 תלמידים שרשומים לשניהם, לכל שלושה מהקורסים יש בדיוק 24 תלמידים שרשומים לשלושתם, ולכל ארבעה מהקורסים יש בדיוק 16 תלמידים שרשומים לארבעתם. הוכיחו שיש לפחות תלמיד אחד שרשום לכל חמשת הקורסים בו זמנית.  
הדרכה: על סמך הנתונים כתבו ביטוי שמתאר כמה תלמידים יש בכל חמשת הקורסים יחד.
- (7) לארוחת ערב הוזמנו חמש נשים, להן המארחת קנתה 10 מתנות שונות. בכמה דרכים ניתן לחלק את המתנות בין האורחות, כך שכל אורחת תקבל לפחות פרס אחד?

8) איש ציבור מושחת לוקח כל שנה שוחד בסך 2, 4 או 6 מיליון דולר (שלא כמו איש ציבור נורמטיבי, איש ציבור מושחת יכול לקחת שוחד של 6 מיליון דולר מספר שנים ברציפות). סדרת שוחד היא סדרת סכומים שקיבל איש ציבור מושחת במשך כמה שנים, למשל 2, 4, 2, 6, 6. כמה סדרות שוחד יניבו עבור איש ציבור מושחת סך של 20 מיליון דולר במשך 6 שנים?

9) עבור  $A = \{1, 2, 3, \dots, 10\}$ , כמה פונקציות  $f: A \rightarrow A$  חח"ע ועל יש, כך ש- $f(k) \neq k$  עבור  $k = 1, 2, 3$ ?

10) בכמה תמורות של המספרים  $\{1, 2, 3, 4, \dots, 18\}$ , כל המספרים שמתחלקים ב-3 במקומות של מספרים שמתחלקים בשלוש ואף זוגי לא במקומו?

11) ברשותך שלושה כדורים לבנים זהים, שלושה כדורים שחורים זהים, ומאגר בלתי מוגבל של כדורים אדומים זהים. בכמה אופנים ניתן להרכיב מהם קבוצה (סדר הכדורים לא משנה) בת  $n$  כדורים? פתרו בעזרת פונקציות יוצרות ובעזרת הכלה והדחה והשוו את התוצאות.

12) שבע משפחות בנות שלוש נפשות כל אחת (אבא, אמא וילדה) מגיעות למפגש חברתי.

בכמה אופנים ניתן לסדר אותם בשלוש, כך ש:

א. ללא הגבלה?

ב. כל שלשה תהיה מורכבת מאבא, אמא וילד אבל אף שלשה לא תרכיב משפחה שלמה?

ג. אף שלשה לא תרכיב משפחה שלמה (כלומר, יתכן שלשה המורכבת משלושה אבות או שני אבות וילד).

13) בכמה דרכים ניתן לחלק 40 כדורים לארבעה תאים, כך שאף תא לא יהיה ריק, כאשר

א. הכדורים זהים.

ב. הכדורים שונים.

14) ארבעה אנשים שונים (שנמספר 1, 2, 3, 4) אחראים יחד על ביצוע של 5 משימות שונות (שנקטלג א, ב, ג, ד, ה). לביצוע כל משימה נדרשים **בדיוק שני אנשים**, כאשר אין הבדל בין תפקידי שני האנשים בצוות המבצע משימה נתונה.

א. בכמה דרכים ניתן להקצות את 5 המשימות לצוותים של שני אנשים?

הנה כמה דוגמאות לדרכים **לגיטימיות** לעשות זאת:

**דוגמה 1:** הצוות {1, 2} יבצע את כל המשימות.

**דוגמה 2:** הצוות {1, 2} יבצע את משימות א ו-ב, הצוות {1, 3} את

משימות ג ו-ד, והצוות {2, 3} את משימה ה.

**דוגמה 3:** הצוות {1, 2} יבצע את משימות א ו-ב, הצוות {3, 4} את

משימות ג ו-ד, והצוות {2, 3} את משימה ה.

ב. בכמה דרכים ניתן להקצות את חמשת המשימות לצוותים של שני אנשים, אם אסור שמישהו יתחמק לגמרי מעבודה, כאשר כל אחד מ-4 האנשים חייב לקחת חלק במשימה אחת לפחות (דוגמאות 1 ו-2 בסעיף א אינן חוקיות כעת, אולם דוגמה 3 חוקית).

15) דנה, תלמידה בכיתה א', קראה בספר את המשפט המעניין: **דנה קמה דנה נמה**. אחרי שקראה בהצלחה את המשפט, עלו בדעתה של דנה כמה שאלות מעניינות לא פחות:

א. בכמה דרכים אפשר לסדר את כל 12 האותיות במשפט זה במחרוזת אחת ללא רווחים, כגון **דנהקמהדנהנמה**?

ב. בכמה מהדרכים הללו מופיע בתוך המחרוזת הרצף **דמקה**?

ג. מה מספר הדרכים לסדר את 12 האותיות, כך **שלא** תופיע בתוך המחרוזת **אף אחת** מארבע המחרוזות: **דמקה, קהה, ממד, נננה**?

16) בבחינה מתמטיקה בדידה בקורס זה יש 11 שאלות בארבעה נושאים: 2 שאלות בקומבינטוריקה בסיסית, 3 שאלות בפונקציות יוצרות, 2 שאלות בגרפים ו-4 שאלות בהכלה והדחה, כאשר יש לענות על 6 שאלות לפחות (אפשר יותר) וחייבים לענות על לפחות שאלה אחת מכל נושא. בכמה אופנים ניתן לעשות זאת?

17) בכמה דרכים ניתן להרכיב מילה מהמספרים  $\{1, 2, 3, \dots, n\}$ , כך שכל מספר יופיע  $k$  פעמים, אבל אף מספר לא יופיע  $k$  פעמים ברצף?

לפתרון מלא בסרטוני וידאו היכנסו לאתר [www.GooL.co.il](http://www.GooL.co.il)

# מבוא למתמטיקה דיסקרטית

פרק 9 - פונקציות יוצרות

תוכן העניינים

79 ..... 1. פונקציות יוצרות

## פונקציות יוצרות

## שאלות

$$(1) \quad \text{מה המקדם של } x^{10} \text{ בביטוי } \left(x^2 - \frac{1}{2}x + 2\right)^{30} ?$$

(2) בנו פונקציה יוצרת למספר האפשרויות של דני לקנות בסופר 50 מוצרי חלב לבית מסוג שוקו, מוקה ובננה. כאשר: משקה בננה מגיע רק באריזות של שלוש, משקה שוקו בזוגות, ומשקה מוקה אפשר לקנות ביחידים, ואחותו של דני אוהבת רק מוקה.  
(שימו לב שעליו לחזור הביתה עם משקאות לכל בני המשפחה)

(3) איש ציבור מושחת לוקח כל שנה שוחד בסך 2, 4 או 6 מיליון דולר (שלא כמו איש ציבור נורמטיבי, איש ציבור מושחת יכול לקחת שוחד של 6 מיליון דולר מספר שנים ברציפות). סדרת שוחד היא סדרת סכומים שקיבל איש ציבור מושחת במשך כמה שנים, למשל 2, 4, 6, 6.  
כמה סדרות שוחד יניבו עבור איש ציבור מושחת סך של 20 מיליון דולר במשך 6 שנים?

$$(4) \quad \text{יהי } a_n \text{ המקדם של } x^n \text{ בפיתוח של הפונקציה } \frac{1}{(1-2x)^2} \cdot \frac{1}{(1-x)},$$

ויהי פתרון נוסחת הנסיגה  $b_n = b_{n-1} + (n+1)2^n$  עם תנאי ההתחלה  $b_0 = 1$ .  
הוכיחו כי  $a_n = b_n$ .

שימו לב: אפשר לפתור את השאלה ע"י חישוב מפורש של  $a_n$  ו- $b_n$ , אבל ניתן גם למצוא

$$\text{קיצור דרך משמעותי בעזרת ביטוי מהצורה } \sum_{k=0}^n (...)$$

(5) יהי  $a_n$  מספר הדרכים לכתוב את  $n$  כסכום של מספר אי-שלילי של 2-ים, מספר חיובי של 3-ים, ולכל היותר שני 1-ים, כאשר סדר המחברים איננו משנה, ויהי  $b_n$  מספר הדרכים לפזר  $n$  כדורים זהים לשני תאים, כך שבתא הראשון לפחות שלושה כדורים, ובתא השני מספר זוגי של כדורים.  
הוכיחו כי  $a_n = b_n$ .

- 6) א. רונית יוצאת לטייל בשכונה בלוויית  $n$  חיות מחמד, והיא מזמינה לטיול 3, 4 או 5 חתולים מפח האשפה (זה נקרא חתול פי"ז = פח זבל), מספר כלשהו של זוגות עורבים (עורבים באים בזוגות), וכמו כן, אם התחזית לאזרחים היסטריים לאורך המסלול רגועה, יתכן שרונית תזמין גם תנין מצרי. נסמן ב- $a_n$  את מספר האפשרויות לבחירת  $n$  חיות מחמד לטיול של רונית (חיות מאותו מין ביולוגי נחשבות זהות).

- א. חשבו את הפונקציה היוצרת של  $a_n$  (תשובה סופית כמנה של פולינומים).  
ב. גם נורית יוצאת לטיול עם  $n$  חיות מחמד משלה. מספר האפשרויות של

$$\sum_{n=0}^{\infty} b_n x^n = \frac{x+x^2}{(1-x)^4}$$

נורית לבחור את החיות שלה הוא  $b_n$ , ונתון כי בכמה אופנים יכולה נורית לבחור לעצמה 23 חיות מחמד לטיול פסטורלי?

$$7) \text{ חשבו את } a_{22} \text{ בסדרה הנוצרת על ידי } F(x) = \frac{6-10x}{1-7x+12x^2}$$

- 8) בנו פונקציה יוצרת (ללא  $\Sigma$ ) עבור מספר הדרכים לפזר  $n$  כדורים זהים ב-7 תאים, כך שמספרי הכדורים בתא הראשון ובתא השביעי שווים, בתא השני והשישי יש מספר שווה של כדורים, ובתא הרביעי מספר גדול מאשר בתא הראשון והשני יחד.

$$9) \text{ מצאו נוסחה סגורה לסכום } \sum_{k=0}^n k \cdot 5^k$$

- 10) נסמן ב- $a_n$  את מספר הדרכים לפזר  $n$  כדורים זהים ב-5 תאים, כך שלכל  $1 \leq k \leq 5$  מספר הכדורים בתא ה- $k$  שווה למספר הכדורים בתא ה- $5-k+1$ , ומספר הכדורים בתא האמצעי גדול מסכום מספרי הכדורים בתא הראשון והשני יחד.

$$\text{מצאו ביטוי אלגברי סגור (ללא } \Sigma) \text{ לפונקציה היוצרת } f(x) = \sum_{n=0}^{\infty} a_n x^n$$

- 11) ברשותך שלושה כדורים לבנים זהים, שלושה כדורים שחורים זהים, ומאגר בלתי מוגבל של כדורים אדומים וירוקים זהים. בכמה אופנים ניתן להרכיב מהם קבוצה (סדר הכדורים לא משנה) בת  $n$  כדורים?  
פתרו בעזרת פונקציות יוצרות ובעזרת הכלה והדחה והשוו את התוצאות.

- 12) א. בכמה מספרים קטנים ממיליון סכום הספרות הוא 23 בדיוק?  
 (שאלה זו מופיעה גם בפרק על הכלה הדחה)  
 ב. בכמה מספרים קטנים ממיליון סכום הספרות הוא 31 בדיוק?  
 ג. בכמה מספרים קטנים ממיליון סכום הספרות הוא 23 לכל היותר?

- 13) הוכיחו כי מספר הפתרונות בשלמים אי-שליליים למשוואה  $x + y + z = n$ , כאשר  $y$  זוגי,  $3 \leq x \leq 5$  ו- $0 \leq z \leq 1$ , שווה למספר הפתרונות בשלמים אי-שליליים למשוואה  $x + y = n$ , כאשר  $3 \leq x$  ו- $0 \leq y \leq 2$ .

- 14) נתונות סדרות  $(a_n)_{n \geq 0}$ ,  $(b_n)_{n \geq 0}$ , כלשהן, ונתון שאברי הסדרה  $(c_n)_{n \geq 0}$  מקיימים  $c_n = \sum_{i=0}^n a_i b_{n-i}$  לכל  $n \geq 0$ . נסמן ב- $(da)_n$ ,  $(db)_n$ ,  $(dc)_n$  את סדרות ההפרשים של הסדרות  $(a_n)_{n \geq 0}$ ,  $(b_n)_{n \geq 0}$ ,  $(c_n)_{n \geq 0}$ . בהתאמה. הוכיחו באמצעות פונקציות יוצרות כי לכל  $n \geq 0$  מתקיים:

$$(dc)_n = \sum_{i=0}^n (da)_i b_{n-i} = \sum_{i=0}^n a_i (db)_{n-i}$$

לפתרון מלא בסרטוני וידאו היכנסו לאתר [www.GooL.co.il](http://www.GooL.co.il)

# מבוא למתמטיקה דיסקרטית

פרק 10 - נוסחאות נסיגה (רקורסיה)

תוכן העניינים

82 ..... 1. נוסחאות נסיגה (רקורסיה)

## נוסחאות נסיגה (רקורסיה)

### שאלות

- (1) לכל  $n$  שלם אי-שלילי נגדיר את  $a_n$  להיות מספר הסדרות היורדות הלא ריקות, שמורכבות ממספרים טבעיים בין 1 ל- $n$ , כך שההפרש בין כל שני מספרים עוקבים בסדרה הוא לפחות 3. כתבו נוסחת נסיגה ותנאי התחלה ל  $a_n$ . דוגמאות:
- הסדרה (1,5,9,12) נספרת בחישוב של  $a_{14}$ , מכיוון שהיא יורדת, כל הספרות שבה הן בין 1 ל-14, וההפרשים בין כל שתי ספרות עוקבות בסדרה הם 3 או יותר.
  - הסדרה (14) נספרת בחישוב של  $a_{14}$ , מכיוון שהיא יורדת, כל הספרות שבה הן בין 1 ל-14, וההפרשים בין כל שתי ספרות עוקבות בסדרה הם 3 או יותר (בגלל שאין ספרות עוקבות).
  - הסדרה (1,7,9,12) אינה נספרת בחישוב של  $a_{14}$ , מכיוון שההפרש בין הספרה השנייה והשלישית בסדרה הוא 2.
- (2) א. מצאו נוסחת נסיגה ותנאי התחלה עבור מספר האפשרויות לחלק קבוצה בת  $n$  אנשים לזוגות ולבודדים.  
 ב. מצאו נוסחת נסיגה ותנאי התחלה למספר הדרכים לחלק קבוצה של  $n$  אנשים לזוגות ולשלשות, כאשר הסדר בין הזוגות והשלשות ובתוך הזוגות והשלשות אינו משנה.
- (3) בחפיסת קלפי טאקי יש מספר לא מוגבל של קלפים בצבעים צהוב, אדום, כחול וירוק, ואיננו מבחינים בין קלפים שונים מאותו צבע. יהי  $a_n$  מספר ערימות קלפי טאקי בגודל  $n$ , שבהם מעל קלף אדום או כחול אסור לשים קלף צהוב או ירוק. מצאו נוסחת נסיגה ותנאי התחלה ל- $a_n$ .

4 מצאו יחס רקורסיבי ותנאי התחלה עבור מספר המילים באורך  $n$  מעל  $\{A, B, C\}$  ללא הרצף:

א.  $CC$

ב.  $AB$

ג.  $AA, AB$

ד.  $AA, BA$

ה.  $AA, AB, AC$

ו.  $AB, BC$  (פתרו בשתי דרכים)

ז.  $BA, CA$

ח.  $AA, BB$

ט.  $AA, BB, CC$

י.  $BC, CB$

5 מצאו יחס רקורסיבי ותנאי התחלה עבור מספר הדרכים לרצף שביל באורך  $n$  במרצפות אדומות באורך 2, מרצפות צהובות באורך 2, מרצפות ירוקות באורך 2, ומרצפות שחורות ומרצפות לבנות באורך 1 כל אחת. לאחר מכן פתרו את יחס הנסיגה שהתקבל, קבלו נוסחה מפורשת, וחשבו את ארבעת האיברים הראשונים בשתי דרכים: אחת לפי היחס הרקורסיבי ושנייה על ידי הצבה בנוסחה המפורשת שנמצאה.

6 עבור  $n$  טבעי, מהו מספר הסדרות הפלינדרומיות באורך  $n$  מעל קבוצת הספרות העשרונית  $\{0, 1, 2, \dots, 9\}$ ?

(סדרה  $x_1, \dots, x_n$  היא פלינדרומית, אם  $x_i = x_{n-i+1}$  לכל  $1 \leq i \leq n$ . ובעברית פשוטה: אם בקריאתה מהסוף להתחלה או מההתחלה לסוף מתקבלת אותה סדרה, למשל  $(1, 7, 2, 2, 2, 7, 1)$ ).

- (7)** נתבונן בסדרות סופיות של סימנים, הלקוחים מתוך 6 סימנים: הספרות 0 ו-1, וארבעה סימני פעולה +, -, \*, /. ובכפוף לתנאים הבאים:
1. הסדרה נפתחת ומסתיימת בספרה.
  2. אין הופעות צמודות של סימני פעולה.
- דוגמאות של סדרות העונות על התנאים:  $0100/101 - 11 + 1010$ ,  $001$ .
- דוגמאות של סדרות שאינן עונות על התנאים:  $-00$ ,  $+00+10$ ,  $101+/00$ .
- נסמן ב- $a_n$  את מספר הסדרות הללו שבהן בדיוק  $n$  סימנים.
- א. מצאו יחס נסיגה עבור  $a_n$ .
  - ב. מצאו באופן ישיר את  $a_0, a_1, a_2, a_3$ , ובדקו בעזרת הערכים שהתקבלו את יחס הנסיגה שרשמתם.
  - ג. פתרו את יחס הנסיגה וקבלו נוסחה מפורשת עבור  $a_n$ .
- בדקו בעזרת הנוסחה את תוצאות סעיף ב.

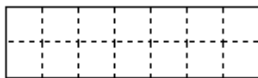


- (8)** בידינו מספר בלתי-מוגבל של בלוקים זהים בגודל  $2 \times 1$



ומספר בלתי-מוגבל של בלוקים זהים בגודל  $2 \times 2$ .

עלינו לרצף מלבן שממדיו  $n \times 2$  (בציור להלן  $n = 7$ ).  
אסור לחרוג מגבולות המלבן.



בלוק של  $2 \times 1$  אפשר להניח כרצוננו, 'שוכב' או 'עומד'.  
יהי  $a_n$  מספר הריצופים השונים האפשריים.

- א. רשמו יחס נסיגה עבור  $a_n$  (הסבירו אותו) ותנאי התחלה מספיקים.
- ב. פתרו את יחס הנסיגה.
- ג. חשבו את  $a_4$  בשתי דרכים: מתוך יחס הנסיגה שבסעיף א' ובאופן ישיר.

9) תנו ביטוי מפורש ל- $a_n$  בנוסחאות הנסיגה הבאות וחשבו את  $a_3, a_4, a_5$  בשתי דרכים: בעזרת יחס הנסיגה ובעזרת הנוסחה המפורשת.

- |   |                                     |
|---|-------------------------------------|
| א. $a_n = 5a_{n-1} - 6a_{n-2}$            | כאשר $a_0 = 3, a_1 = 7$             |
| ב. $a_{n+1} = 5a_n - 4a_{n-1}$            | כאשר $a_0 = 1, a_1 = 1$             |
| ג. $a_n = 4a_{n-1} - 4a_{n-2}$            | כאשר $a_0 = -1, a_1 = 4$            |
| ד. $a_{n+1} = 7a_{n-1} + 6a_{n-2}$        | כאשר $a_0 = 1, a_1 = 0, a_2 = 7$    |
| ה. $a_{n+1} = 4a_n - 5a_{n-1} + 2a_{n-2}$ | כאשר $a_0 = 1, a_1 = 4, a_2 = 11$   |
| ו. $a_n = 7a_{n-1} - 10a_{n-2} + 16n$     | כאשר $a_1 = 19, a_0 = 14$           |
| ז. $a_n = 6a_{n-1} - 8a_{n-2} - 3$        | כאשר $a_0 = 1, a_1 = 9$             |
| ח. $a_n = 6a_{n-1} - 8a_{n-2} - 3^n$      | כאשר $a_0 = 1, a_1 = 9$             |
| ט. $a_n = 6a_{n-1} - 8a_{n-2} - 2^n$      | כאשר $a_0 = 1, a_1 = 10$            |
| י. $a_n = 10a_{n-1} - 25a_{n-2} + 5^n$    | כאשר $a_0 = -1, a_1 = 7\frac{1}{2}$ |
| יא. $a_n = 3a_{n-1} - 2a_{n-2} + 2^n + n$ | כאשר $a_0 = 1, a_1 = 2$             |

10) מצאו נוסחת נסיגה ותנאי התחלה עבור הסידרה  $a_n$  המקיימת:

$$a_n = 2^{2n+1} - 3^n (n-1) + 1$$

11) כתבו נוסחת נסיגה למספר הסדרות באורך  $n$  בספרות 0,1,2 ללא 00 ו-12.

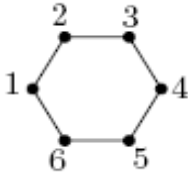
12) איש ציבור נורמטיבי לוקח שוחד כל שנה בסכום 2 מיליון דולר, 4 מיליון דולר או 6 מיליון דולר. כדי לא למשוך תשומת לב, הוא לא לוקח שוחד על סך 6 מיליון דולר שנתיים ברצף. נסמן ב- $a_n$  את מספר סדרות השוחד השונות שיכול לצבור איש ציבור בשירות נורמטיבי בן  $n$  שנים. דוגמה: במשך 4 שנים ניתן לצבור את סדרת השוחד 2,2,2,2; את סדרת השוחד 2,4,2,6; את סדרת השוחד 4,2,2,6; וכן הלאה (שימו לב ששתי הסדרות האחרונות נספרות כשתי סדרות שוחד שונות). רשמו נוסחת נסיגה ותנאי התחלה ל- $a_n$ .

13) לכל  $n \in \mathbb{N}$  נסמן על ידי  $a_n$  את מספר המילים מעל  $\{A, B, C, D, E\}$  שלא מכילות

- אף אחד מהרצפים  $AA, BA, CA$ .  
מצאו נוסחה מפורשת עבור  $a_n$ .

**14** יהי  $a_n$  מספר הסדרות באורך  $n$  שאיבריהן שייכים לקבוצה  $\{1, 2, 3, \dots, 8\}$  ומקיימות את התנאי הבא: לא מופיעים בסדרה מספרים זוגיים זה בסמוך לזה.

- א. מצאו יחס נסיגה עבור  $a_n$ , ורשמו את  $a_1$  ו- $a_0$ .
- ב. פתרו את יחס הנסיגה וקבלו ביטוי מפורש עבור  $a_n$ .
- ג. חשבו את  $a_2$  מנוסחת הרקורסיה ומהביטוי המפורש, ובדקו שהתקבל אותו ערך.



**15** כמה טיולים באורך  $n$ , המתחילים בקודקוד 1 ומסתיימים בקודקוד 1 יש בגרף הבא?  
 לדוגמה: עבור  $n = 2$  יש שני טיולים כאלה והם 1, 2, 1 ו-1, 6, 1.  
 לדוגמה: עבור  $n = 4$  יש שישה טיולים כאלה והם  
 $(1, 2, 1, 6, 1), (1, 6, 1, 2, 1), (1, 6, 1, 6, 1), (1, 6, 5, 6, 1), (1, 2, 1, 2, 1), (1, 2, 3, 2, 1)$

**16** נתון כי  $n$  הוא חזקה טבעית של 4,  $f(n) = 16f\left(\frac{n}{4}\right) + n^2$  וכן  $f(1) = 3$ .  
 פתרו בשיטת הצבה חוזרת.

לפתרון מלא בסרטוני וידאו היכנסו לאתר [www.GooL.co.il](http://www.GooL.co.il)

# מבוא למתמטיקה דיסקרטית

פרק 11 - שובך היונים

תוכן העניינים

87 ..... 1. שובך היונים

## שובך היונים

## שאלות

- (1) תהי  $A = \{1, 2, 3, \dots, 49\}$ . הוכיחו כי לכל בחירה של קבוצה  $B \subseteq A$ , כך ש- $|B| = 26$ , יהיו ב- $B$  לפחות שני איברים שסכומם 49.
- (2) תהי  $A$  קבוצה של שישה מספרים מתוך  $\{1, \dots, 11\}$ . הוכיחו כי קיימות שתי תתי קבוצות של  $A$  שסכום אבריהן שווה.
- (3) מה הגודל המירבי של קבוצה של מספרים טבעיים, שבה אין שני מספרים שסכומם או הפרשם מתחלק ב-3009? נמקו.
- (4) תהי  $A$  קבוצה של  $n$  מספרים טבעיים כלשהם. הוכיחו שקיימת קבוצה חלקית לא-ריקה של  $A$ , שסכום איבריה מתחלק ב- $n$ .
- (5) הוכיחו כי בכל צביעה של המישור בשני צבעים, כחול ואדום, יש שתי נקודות שמרחקן אחד והן צבועות באותו צבע.
- (6) יהי  $n \in \mathbb{N}$ . הוכיחו כי קיים  $k \in \mathbb{N}$ , כך שבמס' הטבעי  $k \cdot n$  מופיעות הספרות 7 ו-0 בלבד.
- (7) הוכיחו כי מבין כל 12 מספרים דו-ספרתיים יש שניים שהפרשם בעל שתי ספרות זהות.
- (8) הוכיחו כי מבין כל בחירת 26 נקודות בתוך משולש שווה צלעות, שאורך צלעו הוא אחד, יש שתי נקודות שהמרחק ביניהן קטן מ- $\frac{1}{5}$ .
- (9) הוכיחו כי בכל בחירה של  $n+1$  מספרים מתוך הקבוצה  $\{1, 2, 3, \dots, 2n\}$ , יש שני מספרים  $x, y$  כך ש:  
 א.  $x, y$  זרים (כלומר, המחלק המשותף המקסימלי שלהם הוא 1).  
 ב.  $x$  מתחלק ב- $y$  ללא שארית.  
 ג. הראו כי החסם הנ"ל הדוק, כלומר אפשר לבחור  $n$  מספרים מבלי שיתקיימו תנאים א ו-ב.

- (10) נבחר 46 מספרים מתוך הקבוצה  $\{1, 2, 3, \dots, 81\}$ . הוכיחו כי יש שני מספרים שהפרשם הוא בדיוק 9. הוכיחו גם כי המספר הנ"ל הדוק (כלומר מצאו 45 מספרים מתוך  $\{1, 2, 3, \dots, 81\}$ , שאין בהם שניים שהפרשם הוא בדיוק 9).
- (11) תהי  $A$  קבוצה בת 20 מספרים מתוך הסדרה החשבונית  $1, 4, 7, 10, \dots, 100$ . הוכיחו כי יש שני מספרים שסכומם 104.
- (12)  $n$  אנשים נפגשו במסיבה ולחצו ידיים. הוכיחו כי יש שני אנשים שלחצו בדיוק אותו מספר ידיים.
- (13) הוכיחו כי בכל צביעה של קשתות הגרף השלם  $K_6$  בשני צבעים, יש משולש מונוכרומטי.
- (14) הוכיחו כי בכל גרף יש שני קודקודים בעלי אותה דרגה.
- (15) לפוליטיקאי נותרו 50 ימים עד לבחירות, והוא מתכנן נאומי בחירות: לפחות אחד ביום אך לא יותר מ-75 נאומים בסך הכל. הוכיחו כי קיימת סדרת ימים שבהם הוא נואם 24 נאומים.
- (16) יהי  $n \in \mathbb{N}$ . הוכיחו כי קיים  $m \in \mathbb{N}$ , כך ש- $n$  מחלק את  $2^m - 1$ . הדרכה: התבוננו בסדרה  $2^1 - 1, 2^2 - 1, 2^3 - 1, \dots, 2^{n+1} - 1$ .

לפתרון מלא בסרטוני וידאו היכנסו לאתר [www.GooL.co.il](http://www.GooL.co.il)

# מבוא למתמטיקה דיסקרטית

פרק 12 - תורת הגרפים

תוכן העניינים

89	1. מבוא לתורת הגרפים
95	2. גרף דו צדדי
98	3. עצים
102	4. מעגלים מיוחדים
106	5. איזומורפיזם

## מבוא לתורת הגרפים

### שאלות

הערה: חלק קטן משאלות פרק זה מסתמכות על מושג העץ. רצוי ללמוד את הפרק עצים שהוא פרק חשוב ביותר.

- (1) ענו על הסעיפים הבאים:
- א. יהי  $G = (V, E)$  גרף על 43 צמתים: 10 צמתים מדרגה 7, 17 צמתים מדרגה 6, 12 צמתים מדרגה 4 והיתר מדרגה 1. כמה קשתות יש ב- $G$ ?
- ב. הוכיחו כי בכל גרף מספר הצמתים מדרגה אי-זוגית הוא זוגי.
- (2) עבור  $n \in \mathbb{N}$  נגדיר גרף פשוט  $G_n$ , כך שצמתיו הם  $2^n$  הסדרות הבינאריות באורך  $n$ , ושני קודקודים מחוברים ביניהם בקשת אם ורק אם הם נבדלים בקואורדינטה אחת. מה מספר הקשתות של  $G_5$  ושל  $G_n$ ? (גרף כזה נקרא גרף הקובייה)
- (3) נגדיר גרף  $G = (V, E)$  באופן הבא:  $V = \{A \in P\{1, 2, 3, 4, 5, 6, 7\} \mid |A| = 3\}$  ,  $E = \{\{A, B\} \mid |A \cap B| = 1\}$  , למשל  $\{\{2, 4, 7\}, \{1, 4, 6\}\} \in E$  , כי בחיתוך יש איבר אחד. א. מהו מספר הצמתים? מה דרגת כל קודקוד? מה מספר הקשתות? ב. האם  $G$  דו"צ?
- (4) חזרו על שאלה קודמת עבור הגרף  $G = (V, E)$  באופן הבא:  $V$  כמו קודם ו- $E = \{\{A, B\} \mid A \cap B = \emptyset\}$ .
- (5) יהי  $G = (V, E)$  על 7 צמתים: 4 מהצמתים הם מדרגה 5 וכל יתר הדרגות קטנות מ-3. מהן האפשרויות הנכונות?
- א. יש גרף פשוט כזה, שהוא קשיר.  
 ב. יש גרף פשוט כזה, אבל הוא לא קשיר.  
 ג. יש גרף כזה, אבל הוא לא פשוט ולא קשיר.  
 ד. יש גרף כזה, והוא לא פשוט וקשיר.

- 6 נתונים שני גרפים  $G_1, G_2$  על 5 קודקודים. סדרת דרגותיו של  $G_1$  היא  $1, 2, 3, 4, 4, 5, 6$  וסדרת דרגותיו של  $G_2$  היא  $1, 2, 3, 4, 4, 5, 6$ . לגבי כל אחד משני הגרפים קבעו איזו מן הטענות הבאות נכונה:
- יש גרף פשוט וקשיר כזה.
  - יש גרף קשיר כזה, אבל הוא לא פשוט.
  - יש גרף פשוט כזה, אבל הוא לא קשיר.
  - יש גרף כזה, אבל הוא חייב להיות לא פשוט ולא קשיר.
  - לא קיים גרף כזה.

- 7 ענו על הסעיפים הבאים:
- יהי  $G$  גרף פשוט בעל  $n$  קודקודים. הוכיחו כי אם לכל שני קודקודים  $x, y \in V$  מתקיים  $d(x) + d(y) \geq n - 1$ , אז  $G$  קשיר.
  - הוכיחו באינדוקציה כי גרף על  $n$  קודקודים ופחות מ- $n - 1$  קשתות אינו קשיר.

- 8 יהי  $G$  גרף פשוט בעל  $n$  קודקודים. הוכיחו כי אם:  $|E| > \binom{n-1}{2}$  (\*) אז  $G$  קשיר, כאשר  $|E|$  מספר הקשתות. הראו גם כי חסם זה הדוק. כלומר, הראו גרף פשוט  $G$ , עבורו  $|E| = \binom{n-1}{2}$ , כך ש- $G$  אינו קשיר. זה מראה שלא ניתן לשפר את אי השוויון (\*).

- 9 יהי  $G = (V, E)$  גרף פשוט ויהיו  $x, y \in V$  שני קודקודים לא שכנים. הוכיחו כי אם  $d(x) + d(y) \geq n$ , אז יש ל- $x$  ול- $y$  לפחות שני שכנים משותפים.

- 10 יהי  $G$  גרף פשוט על  $n \geq 2$  צמתים, ויהיו  $u, v \in V$  קודקודים שאינם שכנים. הוכיחו כי אם:  $d(u), d(v) \geq \frac{n+1}{2}$  אז יש ל- $u, v$  לפחות שלושה שכנים משותפים.

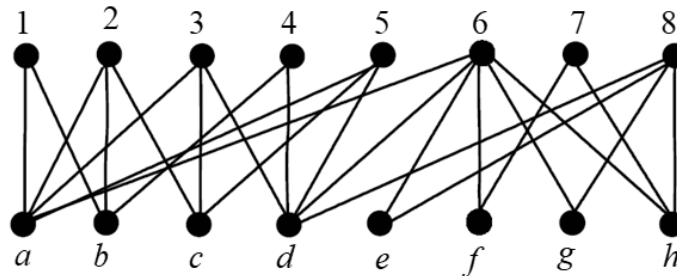
- 11 יהי  $G = (V, E)$  גרף, כך ש- $(n \geq 2)$ ,  $V = P_2(\{1, 2, \dots, n\})$ ,  $e \in E \Leftrightarrow A \cap B = \emptyset$ ,  $A, B \in V$  כאשר
- חשבו את  $|V|$ .
  - מהי דרגת כל צומת?
  - הוכיחו כי אם  $n \geq 5$  אזי  $G$  קשיר (רמז: דרך השלילה).

- 12) יהי  $G$  גרף פשוט על 10 קודקודים שיש בו 41 קשתות. הוכיחו:  
א. יש לפחות שני קודקודים ב- $G$  שדרגתם היא 9.  
ב.  $G$  קשיר.
- 13) יהי  $G = (V, E)$  גרף פשוט. הוכיחו כי אם  $|V| = |E|$ , אז ב- $G$  יש מעגל, ואם  $G$  קשיר, אז המעגל יחיד.
- 14) יהי  $G$  גרף פשוט קשיר בן 7 קודקודים, שסדרת דרגותיו היא  $3, 2, 2, 2, 1, 1, 1$ . כמה מעגלים פשוטים יש בגרף?
- 15) יהי  $G$  גרף פשוט בעל  $n$  קודקודים. הוכיחו כי אם לכל קודקוד  $x \in V$  מתקיים  $d(x) \geq \frac{n}{2}$ , אז ב- $G$  מעגל באורך 4.
- 16) הוכיחו כי בכל גרף פשוט על 100 קודקודים, שבו כל הדרגות הן לפחות 10, יש מעגל באורך  $\geq 4$ .
- 17) יהי  $G$  גרף פשוט. הוכיחו כי לפחות אחד מבין הגרפים  $G, \bar{G}$  קשיר. בניסוח שקול: הוכיחו כי בכל צביעת קשתות הגרף השלם  $K_n$  בשני צבעים לפחות, אחד הגרפים החד צבעיים הוא קשיר.
- 18) הוכיחו כי בכל צביעת קשתות הגרף השלם  $K_6$  בשני צבעים, יש משולש מונוכרומטי (משולש חד צבעי).
- 19) הוכיחו כי בכל קבוצה של 9 אנשים יש בהכרח לפחות 4 המכירים זה את זה או לפחות 3 שאף שניים מהם אינם מכירים זה את זה.
- 20) יהי  $G$  גרף שקודקודיו הם תתי קבוצות בנות 4 אברים של הקבוצה  $\{1, 2, \dots, n\}$ , (כאשר  $n$  גדול מ-6). שני קודקודים מחוברים בקשת בגרף אם בחיתוך שלהם יש שני אברים בדיוק. לדוגמה, הקודקוד  $\{1, 2, 3, 4\}$  שכן של  $\{1, 2, 7, 8\}$ , אך לא של  $\{1, 2, 3, 7\}$ . כמה קודקודים בגרף הם שכנים של  $\{1, 2, 3, 5\}$ ,  $\{1, 2, 3, 4\}$  או  $\{1, 2, 4, 5\}$ ?

- (21) הוכיחו כי בכל צביעת קשתות הגרף השלם  $K_{17}$  ב-8 צבעים יש מעגל שכל קשתותיו צבועות בצבע אחד (מעגל מונוכרומטי).
- (22) כמה מעגלים פשוטים באורך  $3 \leq k \leq n$  יש בגרף השלם  $K_n$  על קבוצת הקודקודים  $\{1, 2, 3, 4, \dots, n\}$ ?  
שני מעגלים המתקבלים אחד מהשני על ידי סיבוב נחשבים זהים.  
למשל, עבור  $n=5$ , שני המעגלים  $1, 2, 3, 4, 5, 1$  ו- $3, 4, 5, 1, 2, 3$  נחשבים זהים, ואילו המעגלים  $1, 2, 3, 1$  ו- $1, 3, 2, 1$  אינם זהים.
- (23) נצבע ב- $n \geq 2$  צבעים את קשתות הגרף השלם  $K_n$ , כך שכל צבע מופיע לפחות פעם אחת.  
הוכיחו כי קיים מעגל שכל קשתותיו צבועות בצבעים שונים.
- (24) יהי  $G$  גרף קשיר על 13 קודקודים, שניתן לצבוע בשלושה צבעים (כלומר, אפשר לצבוע את הקודקודים בשלושה צבעים, כך שאין שני קודקודים מאותו צבע שמחוברים בקשת).  
הוכיחו שיש בגרף אנטי קליקה בגודל 5 (כלומר, 5 קודקודים שאף אחד מהם לא מחובר לאף אחד אחר).
- (25) נתונים שלושה גרפים בעלי אותה קבוצת קודקודים  $G_1 = (V, E_1)$ ,  $G_2 = (V, E_2)$  ו- $G_3 = (V, E_3)$ . נגדיר  $G = (V, E_1 \cup E_2 \cup E_3)$  כאיחוד שלושת הגרפים, ונניח כי לכל קודקוד ב- $V$  דרגתו ב- $G$  היא לפחות 6.  
הוכיחו כי לפחות אחד מהגרפים  $G_1, G_2, G_3$  אינו חסר-מעגלים.  
שאלה זו מופיעה גם בפרק עצים.
- (26) יהי  $G_n$  גרף פשוט שקודקודיו הם כל תתי-קבוצות של  $\{1, 2, 3, 4, \dots, n\}$ , למעט  $\emptyset$  ו- $\{1, 2, 3, 4, \dots, n\}$  עצמה. שני קודקודים הם שכנים אם ורק אם אף אחד אינו מוכל במשנהו.  
א. הוכיחו כי לכל  $n \geq 2$ ,  $G_n$  קשיר.  
ב. הוכיחו כי אם  $v$  תת קבוצה בת  $k$  אברים של  $\{1, 2, 3, 4, \dots, n\}$  אז דרגתה כקודקוד ב- $G_n$  היא:  $2^n - 2^{n-k} - 2^k + 1$ .  
ג. הוכיחו כי לכל  $n \geq 3$  קיים מעגל המילטון ב- $G_n$ . מותר להסתמך על סעיפים קודמים ועל העובדה ש- $2^{n-1} + 2 \leq 2^{n-k} + 2^k$ .

- (27) כמה זיווגים מושלמים יש, (שאלה זו מופיעה גם בפרק גרף דו צדדי)  
 א. בגרף המלא  $K_5$  ?  
 ב. בגרף המלא  $K_6$  ?  
 ג. בגרף הדו"צ המלא  $K_{5,5}$  ?  
 (הגדרת גרף דו"צ בפרק גרף דו צדדי)  
 ד. בגרף הדו"צ המלא  $K_{5,5}$ , כאשר מחקנו שלוש קשתות שיש להן צומת משותף?

- (28) ענו על הסעיפים הבאים:  
 א. הוכיחו כי בגרף הבא אין זוג מושלם.  
 ב. מצאו זוג מקסימום.  
 ג. מהו המספר המינימלי של קשתות שיש להוסיף לגרף כך שיהיה זוג?



- (29) יהי  $G = (V, E)$  גרף פשוט, ונגדיר גרף חדש  $H = (V, E')$  באופן הבא:  

$$E' = \{\{x, y\} \mid x, y \in V \wedge \exists z \in V : \{\{x, z\}, \{y, z\}\} \subseteq E\}$$
 הוכיחו או הפריכו כל אחת מהטענות הבאות:  
 א. אם  $G$  קשיר, אז  $H$  קשיר.  
 ב. אם  $G$  קשיר, אז  $H$  לא קשיר.  
 ג. אם  $H$  קשיר, אז  $G$  קשיר.  
 ד. אם  $H$  קשיר, אז  $G$  לא קשיר.

- (30) נתון גרף  $G$ .  
 הוכיחו כי אם  $\bar{G}$  לא קשיר, אז לכל שני קודקודים  $x, y$  ב- $G$  מתקיים  $d(x, y) \leq 2$  (כאשר  $d(x, y)$  הוא המרחק בין  $x$  ל- $y$ ).
- (31) נתונה קבוצה בת 5 קודקודים  $V = \{v, u, t, s, r\}$ .  
 כמה גרפים שונים על קבוצת הקודקודים  $V$  מקיימים שדרגת כל קודקוד קטנה ממש מ-4?

32) יהי  $G$  גרף חסר מעגלים כעל 20 קודקודים ו-15 קשתות. כמה רכיבי קשירות בגרף?

33) הוכיחו כי בכל צביעה של קשתות  $K_{2t+1}$  ב- $t$  צבעים, נקבל מעגל חד צבעי.

## גרף דו צדדי

## שאלות

- (1) נגדיר גרף  $G = (V, E)$  באופן הבא:  $V = \{A \in P\{1, 2, 3, 4, 5, 6, 7\} \mid |A| = 3\}$   
 $E = \{\{A, B\} \mid |A \cap B| = 1\}$   
 א. האם  $G$  דו צדדי?  
 ב. האם  $G$  דו קשיר?
- (2) יהי  $G = (V, E)$  גרף, כאשר כל צומת של  $G$  היא סדרה בינארית באורך 6. למשל, 000000 צומת של  $G$ . שני צמתים הם מחוברים אם הם נבדלים זה מזה בשני מקומות בדיוק. למשל, 010111 מחובר ל-011101, כי הם נבדלים במקומות השלישי והחמישי.  
 א. כמה קשתות יש ל- $G$ ?  
 ב. האם  $G$  קשיר? כמה רכיבי קשירות יש ל- $G$ ?  
 ג. האם  $G$  דו"צ?  
 ד. (למי שלמדו גרפים מישוריים, האם  $G$  מישורי?)
- (3) מחקו  $n-1$  קשתות מן הגרף הדו-צדדי השלם  $K_{2,n}$  (כאשר  $n \geq 1$ ) והתקבל גרף  $G$  שאין בו קודקודים מבודדים (כלומר, אין בו קודקודים שדרגתם אפס). הוכיחו ש- $G$  הוא עץ (שאלה זו מופיעה גם בפרק עצים).
- (4) מה הגרף המשלים של הגרפים הדו"צ  $K_{4,4}, K_{5,5}$ , ובאופן כללי  $K_{n,n}$ ?
- (5) יהיו  $G_1 = (V_1, E_1)$  ו- $G_2 = (V_2, E_2)$  שני גרפים, כאשר האיחוד שלהם מוגדר להיות  $G_1 \cup G_2 = (V, E)$  כש- $V = V_1 \cup V_2, E = E_1 \cup E_2$ .  
 הוכיחו או הפריכו:  
 א. איחוד של שני גרפים דו"צ הוא גרף דו"צ.  
 ב. איחוד של שני גרפים דו"צ על קבוצות צמתים זרות הוא גרף דו"צ.  
 ג. איחוד של  $n$  גרפים דו"צ על קבוצות צמתים זרות הוא גרף דו"צ.  
 ד. איחוד של  $n$  גרפים דו"צ על קבוצות צמתים זרות בזוגות הוא גרף דו"צ.
- (6) הציגו את  $K_{16}$  כאיחוד של 4 גרפים דו"צ.

- (7) הוכיחו או הפריכו :  
 אם  $G = (V, E)$  גרף דו"צ  $k$  רגולרי שצדדיו הם  $A, B$ , אז  $|A| = |B|$ .
- (8) יהיו  $G_1, G_2, G_3, \dots, G_7$  שבעה גרפים דו"צ שונים על אותה קבוצת צמתים  $V$ .  
 לכל גרף צדדים  $A_i, B_i$ , כאשר  $i = 1, 2, 3, 4, 5, 6, 7$ . כמוכן שבסימונים אלה מתקיים  $A_i \cup B_i = V, A_i \cap B_i = \emptyset$  לכל  $1 \leq i \leq 7$ .  
 יהי  $G$  איחוד כל הגרפים האלה, כאשר אם יש קשר המופיע בכמה גרפים ניקח רק קשת אחת, כך שאין קשתות מרובות והגרף שהגדרנו הוא גרף פשוט.  
 לכל צומת ב- $G$  נתאים סדרה בת שבע אותיות לפי הצדדים אליה הוא שייך בגרפים  $G_1, G_2, G_3, \dots, G_7$ , בהתאמה.  
 למשל, אם  $v$  שייך לקבוצות  $A_1, A_2, B_3, B_4, B_5, A_6, A_7$ , כלומר בשני הגרפים הראשונים הוא בצד  $A$ , בשלושת הגרפים הבאים בצד  $B$ , ובשני הגרפים האחרונים בצד  $A$ , אז נשמיט את האינדקסים ונתאים לו את המילה  $AABBBA$ .  
 כלומר, ל- $v$  שלנו תתאים המילה  $AABBBA$ , ובאופן דומה, לכל צומת תתאים מילה בת 7 אותיות.  
 הוכיחו כי אם לשני צמתים  $u, v$  מתאימה אותה מילה אז אין צומת ב- $G$  בין  $u$  לבין  $v$ .
- (9) יהי  $G$  גרף דו צדדי  $V = V_1 \cup V_2, V_1 \cap V_2 = \emptyset$ , ונתון כי  $G$  הוא  $d$  רגולרי,  $d \geq 1$ .  
 הוכיחו כי  $|V_1| = |V_2|$ .
- (10) הוכיחו או הפריכו :  
 א. אם לגרף יש שני רכיבי קשירות בדיוק, אז הגרף המשלים הוא דו צדדי.  
 ב. אם לגרף יש שני רכיבי קשירות בדיוק, אז הגרף המשלים אינו דו צדדי.
- (11) כמה זיווגים מושלמים יש,  
 (שאלה זו מופיעה גם בפרק גרף דו צדדי)  
 א. בגרף המלא  $K_5$ ?  
 ב. בגרף המלא  $K_6$ ?  
 ג. בגרף הדו"צ המלא  $K_{5,5}$ ?  
 (הגדרת גרף דו"צ בפרק גרף דו צדדי)  
 ד. בגרף הדו"צ המלא  $K_{5,5}$  כאשר מחקנו שלוש קשתות שיש להן צומת משותף?
- (12) יהי  $G = (V, E)$  גרף דו-צדדי פשוט, וכן  $|V| = n$ .  
 הוכיחו כי  $|E| \leq \frac{n^2}{4}$ .

- 13** נגדיר גרף שצמתיו הם  $P(\{1, 2, 3, \dots, n\})$  (יש  $2^n$  צמתים), ושני צמתים מחוברים, אם אחד מהם מכיל את השני והם נבדלים באיבר אחד. (למשל,  $\{1, 2, 5, 7\}$ ,  $\{1, 5, 7\}$  מחוברים)
- א. הוכיחו כי  $G$  קשיר.  
 ב. הוכיחו כי  $G$  רגולרי.  
 ג. הוכיחו כי  $G$  הוא גרף דו"צ.

- 14** הוכיחו או הפריכו: אם  $G = (V, E)$  אוילרי דו צדדי, אז:  $|V| \in \mathbb{N}_{even}$ .  
 (שאלה זו מופיעה גם בפרק מעגלים מיוחדים)

לפתרון מלא בסרטוני וידאו היכנסו לאתר [www.GooL.co.il](http://www.GooL.co.il)

## עצים

## שאלות

- (1) יהי  $T$  עץ שעל  $n \geq 2$  קודקודים שלו בדיוק שני עלים. מהן דרגות קודקודי  $T$ ? רשמו אותן לכל  $n \geq 2$ , בסדר עולה משמאל לימין (סדרת הדרגות) והוכיחו נכונות תשובתכם.
- (2) יהי  $T = (V, E)$  עץ. הוכיחו שאם כל דרגותיו אי-זוגיות, אזי גם  $|E|$  הוא מספר אי-זוגי.
- (3) יהי  $T$  עץ על  $n \geq 4$  קודקודים. אורך המסלול הפשוט הארוך ביותר ב- $T$  הוא  $n-2$  (יש מסלול פשוט באורך  $n-2$  ואין מסלול ארוך יותר). מהן דרגות קודקודי  $T$ ? רשמו אותן בסדר עולה משמאל לימין (סדרת הדרגות).
- (4) יהי  $T$  עץ. נוסף ל- $T$  קודקוד שנקרא לו  $v$ , וקשתות מ- $v$  לחלק מקודקודי  $T$ . מה צריכה להיות דרגת  $v$  כדי שבגרף המתקבל יהיה בדיוק מעגל פשוט אחד? הוכיחו שאם דרגת  $v$  תהיה גדולה יותר, בגרף יהיה יותר ממעגל פשוט אחד.
- (5)  $G$  גרף עם 20 קודקודים ו-15 קשתות ללא מעגלים. כמה רכיבי קשירות בגרף?
- (6) נתונה קבוצה של 10 קודקודים, ואוסף שקפים שעליהם מצוירים עצים על אותם עשרה קודקודים. גיורא מניח מספר כלשהו של שקפים זה על זה ומקפיד שאף קשת משקף אחד לא תכסה על אותה קשת בשקף אחר (כלומר, אין אף קשת משותפת לשני עצים שונים). הוכיחו שהגרף שגיורא מקבל מאיחוד העצים שמצוירים על השקפים לא יכול להיות גרף שכל דרגותיו שוות ל-5. רמז: חשבו את מספר הקשתות בגרף.
- (7) יהיו  $T_1 = (V, E_1)$ ,  $T_2 = (V, E_2)$  שני עצים על אותה קבוצת קודקודים, ונגדיר גרף  $G$  על אותה קבוצת קודקודים, שקשתותיו  $E = E_1 \cup E_2$ . הוכיחו כי קיים  $x \in V$ , כך ש- $d(x) \leq 3$  (דרגתו של  $x$  ב- $G$ ).

- (8) יהיו  $T_1 = \langle V_1, E_1 \rangle$ ,  $T_2 = \langle V_2, E_2 \rangle$  עצים, ונגדיר גרף  $G$  כך:  $G = \langle V_1 \cup V_2, E_1 \cup E_2 \rangle$ .
- א. נתון כי  $V_1 \cap V_2 = \{v\}$ .  
האם  $G$  בהכרח עץ? נמקו.
- ב. נתון כי  $E_1 \cap E_2 = \{e\}$ .  
האם  $G$  בהכרח עץ? נמקו.
- (9) יהי  $T$  עץ על  $n \geq 3$  קודקודים ויהי  $v$  קודקוד ב- $T$  מדרגה 2.  
יהי  $k$  מספר רכיבי הקשירות של  $T - v$  (שהוא תת הגרף של  $T$  המתקבל ממחיקת  $v$ , והקשתות ש- $v$  קצה שלהן).  
מה הם הערכים האפשריים עבור  $k$ ? הוכיחו.
- (10) יהי  $T$  עץ בעל  $n$  קודקודים, ונתון שדרגותיו הן 1, 3, 5 בלבד. יש 7 קודקודים מדרגה 3 ו-10 מדרגה 5.  
כמה עלים יש בעץ?
- (11) יהי  $T = (V, E)$  עץ, שבו  $|V| = n$ . דרגות צמתי  $T$  הן 1, 3, 5 בלבד. מספר הצמתים שלהם מדרגה 3 הוא 10 ומספר הצמתים שלהם מדרגה 5 הוא 12.  
כמה עלים (צמתים מדרגה 1) יש לעץ?
- (12) הוכיחו כי בכל צביעת קשתות הגרף השלם  $K_n$  בשני צבעים קיים עץ פורש מונוכרומטי.  
הערה: עץ פורש הוא עץ שקודקודיו הם כל קודקודי  $G$  וקשתותיו הן חלק מקשתות  $G$ .
- (13) יהי  $G = (V, E)$ ,  $|V| = n$ , גרף פשוט וחסר מעגלים, שבו  $k$  רכיבי קשירות. הוכיחו כי  $|E| = n - k$ .
- (14) מהי העוצמה הגדולה ביותר האפשרית לקבוצה של עצים על קבוצת הקודקודים  $V = \{1, 2, 3, 4, 5, 6\}$ , שאף שניים מהם אינם איזומורפיים? (שאלה זו מופיעה גם בפרק איזומורפיזם)
- (15) מחקו  $n-1$  קשתות מן הגרף הדו-צדדי השלם  $K_{2,n}$  (כאשר  $n \geq 1$ ), והתקבל גרף  $G$  שאין בו קודקודים מבודדים (כלומר, אין בו קודקודים שדרגתם אפס). הוכיחו ש- $G$  הוא עץ (שאלה זו מופיעה גם בפרק גרף דו צדדי).

16) ענו על הסעיפים הבאים :

א. נתונים שלושה גרפים בעלי אותה קבוצת קודקודים  $G_1 = (V, E_1)$ ,

$$G_2 = (V, E_2) \text{ ו- } G_3 = (V, E_3).$$

נגדיר  $G = (V, E_1 \cup E_2 \cup E_3)$  כאיחוד שלושת הגרפים, ונניח כי לכל

קודקוד ב- $V$  דרגתו ב- $G$  היא לפחות 6.

הוכיחו כי לפחות אחד מהגרפים  $G_1, G_2, G_3$  אינו חסר-מעגלים.

ב. יהיו  $G_1 = (V_1, E_1), G_2 = (V_2, E_2), G_3 = (V_3, E_3)$  שלושה עצים על אותה

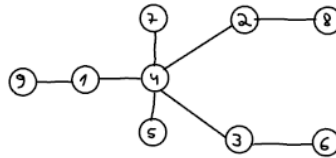
קבוצת צמתים  $V$ .

לכל צומת  $v \in V$  נסמן ב- $d_i(v)$  את הדרגה של  $v$  ב- $G_i$ , אשר  $i = 1, 2, 3$ .

$$\sum_{i=1}^3 d_i(v) \leq 5, v \in V, \text{ שעבורו הוכיחו כי קיים צומת}$$

17) מיהו העץ הממוספר המותאם למילה  $(1, 1, 3, 4, 3, 6, 10, 1)$ ?

18) מהי סדרת פרופר של העץ הבא?



19) בכמה עצים שונים על קבוצת הצמתים  $\{1, 2, 3, 4, 5, 6\}$  אין שום צומת מדרגה זוגית?

20) בכמה עצים על קבוצת הקודקודים  $\{1, 2, 3, 4, \dots, 10\}$  כל העלים הם מספרים זוגיים?

21) כמה עצים שונים יש על הקודקודים  $\{1, \dots, n\}$ , שלהם בדיוק שני עלים?

22)  $T$  הוא עץ בעל 60 צמתים, מתוכם בדיוק 10 צמתים מדרגה 3 ואין בצמתים מדרגה גדולה מ-3.

א. הדגימו עץ כזה.

ב. מצאו את מספר העלים ללא שימוש בקוד פרופר.

ג. מצאו את מספר העלים בעזרת קוד פרופר.

23) בכמה עצים על הקודקודים  $\{1, 2, 3, \dots, 10\}$  יש שלושה עלים והם (ורק הם):  
8, 9, 10?

- (24)** יהי  $G$  גרף פשוט על  $n$  קודקודים המכיל מעגל המילטון, ונתון כי על ידי השמטת קשתות המעגל מתקבלת גרף של  $G$  שהוא עץ. האם ניתן על סמך הנתונים לקבוע כמה קשתות בגרף  $G$ ? אם כן, מהו מספר הקשתות?  
(שאלה זו מופיעה גם בפרק מעגלים מיוחדים)
- (25)** מהי העוצמה הגדולה ביותר האפשרית לקבוצה של עצים על קבוצת הקודקודים  $V = \{1, 2, 3, 4, 5, 6\}$ , שאף שניים מהם אינם איזומורפיים?  
(שאלה זו מופיעה בפרק איזומורפיזם)

לפתרון מלא בסרטוני וידאו היכנסו לאתר [www.GooL.co.il](http://www.GooL.co.il)

## מעגלים מיוחדים

הערה: חלק קטן משאלות פרק זה מסתמכות על מושג העץ. רצוי ללמוד את הפרק עצים שהוא פרק חשוב ביותר.

### דוגמאות

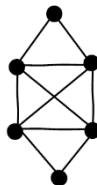
- (1) צפו בסרטון על מעגלי המילטון והוכיחו כי:
- תנאי אורה אינו תנאי הכרחי.
  - החסם במשפט אורה הוא הדוק.

- (2) בשאלה זו נחקור את הקשר בין המושג מעגל אוילר לבין מעגל המילטון. הוכיחו או הפריכו:

- אם  $G$  המילטוני, אז  $G$  אוילרי.
- אם  $G$  המילטוני, אז  $G$  לא אוילרי.
- אם  $G$  לא המילטוני, אז  $G$  אוילרי.
- אם  $G$  לא המילטוני, אז  $G$  לא אוילרי.
- לעניין הקשר בין המושגים, מה המסקנה המתבקשת מסעיפים א-ד?
- אם  $G$  הוא גם אוילרי וגם המילטוני, אז יש בו מסלול שהוא בעת ובעונה אחת גם מסלול אוילר וגם מסלול המילטון.
- אם  $G$  אוילרי וגם המילטוני, אז  $G$  הוא מעגל פשוט.
- אם יש ב- $G$  מסלול שהוא בעת ובעונה אחת מעגל אוילר וגם מעגל המילטון, אז  $G$  הוא מעגל פשוט.

### שאלות

- (1) ענו על הסעיפים הבאים:
- מצא מעגל אוילר, מעגל המילטון, ומסלול המילטון שאינו מעגל המילטון בגרף הבא:



- הוכיחו את הטענה הבאה, או תנו דוגמה נגדית והסבר שמראה שאכן מדובר בדוגמה נגדית: אם בגרף יש מעגל המילטון, אז יש בו מעגל אוילר.

- (2) נגדיר גרף  $G = (V, E)$  באופן הבא:  $V = \{A \in P\{1, 2, 3, 4, 5, 6, 7\} \mid |A| = 3\}$   
 $E = \{\{A, B\} \mid |A \cap B| = 1\}$ . למשל,  $\{\{2, 4, 7\}, \{1, 4, 6\}\} \in E$ .
- א. מהו מספר הצמתים? מה דרגת כל קודקוד? מה מספר הקשתות?  
 ב. האם  $G$  דו"צ?  
 ג. האם  $G$  אוילרי?  
 ד. האם  $G$  המילטוני?
- (3) מהו האורך המירבי של מסלול ב- $K_{2n+1}$ ? נמקו.
- (4) הוכיחו בכל גרף שכל דרגותיו 4 ניתן לצבוע את קשתותיו כך מכל קודקוד יצאו בדיוק שתי קשתות מכל צבע.
- (5) ענו על הסעיפים הבאים:  
 א. יהי  $G$  גרף שקודקודיו הן תתי קבוצות בנות 4 איברים של  $\{1, 2, 3, \dots, 8\}$ , כאשר שני קודקודים מחוברים אם ורק אם בקבוצות יש 2 איברים בדיוק. האם ב- $G$  יש מעגל המילטון?  
 ב. יהי  $K_{m,n}$  גרף דו צדדי שלם. הוכיחו כי  $K_{m,n}$  המילטוני  $\Leftrightarrow m = n$ .
- (6) יהיו  $G_1 = (V_1, E_1)$ ,  $G_2 = (V_2, E_2)$ ,  $V_1 \cap V_2 = \emptyset$ ,  $E_1 \cap E_2 = \emptyset$  שני גרפים אוילריים פשוטים. נגדיר  $G = (V, E)$  באופן הבא:  $V = V_1 \cup V_2$ ,  $E = E_1 \cup E_2$ , ומלכדים צומת  $u_1 \in V_1$  עם צומת  $u_2 \in V_2$ . האם  $G$  אוילרי? אם נחבר את  $u_1$  עם  $u_2$  במקום ללכד אותם, האם כעת  $G$  אוילרי?
- (7) יהי  $G = (V, E)$  גרף אוילריאני בעל מספר אי זוגי של צמתים. הוכיחו כי יש ב- $G$  לפחות שלושה צמתים בעלי אותה דרגה. (שובך היונים, מספר הקודקודים  $2n+1$  ויש  $n$  דרגות אפשריות כי כולן זוגיות)
- (8) יהי  $G$  גרף בעל שני רכיבי קשירות,  $T_1$  ו- $T_2$ , שכל אחד מהם עץ. נוסיף שתי קשתות חדשות ל- $G$  (קבוצת הקודקודים נשארת ללא שינוי) ויתקבל גרף חדש  $\tilde{G}$ .  
 א. הוכיחו שב- $\tilde{G}$  בהכרח יש מעגל.  
 ב. בנו דוגמה שבה ב- $\tilde{G}$  יש מעגל המילטון.

- 9** יהי  $G$  גרף פשוט על  $n \geq 3$  קודקודים.  
נתון:  
1.  $n$  מספר זוגי.  
2. כל הדרגות ב- $G$  שוות (כלומר  $G$  גרף רגולרי).  
3. גם  $G$  וגם  $\bar{G}$  קשירים.  
הוכיחו שלפחות באחד מבין  $G$  ו- $\bar{G}$  יש מעגל המילטון.
- 10** הוכיחו או הפריכו: אם  $G$  אוילרי דו"צ, אז מספר הצמתים של  $G$  הוא זוגי.
- 11** עבור  $A = \{1, 2, 3\}$ , נגדיר  $G = (V, E)$ , כאשר  $V = A \times A$  (9 צמתים), ואת  $E$  קבוצת הצמתים נגדיר באופן הבא:  $\{(a, b), (c, d)\} \in E$  אם ורק אם  $a + b \neq c + d$ .  
א. הוכיחו כי  $G$  קשיר.  
ב. מה דרגת הצומת  $(1, 1)$  ומה דרגת הצומת  $(2, 3)$ ? כמה קשתות יש ב- $G$ ?  
ג. הוכיחו כי אין ב- $G$  מסלול אוילר.
- 12** יהי  $G$  גרף פשוט 3-רגולארי על  $n \geq 4$  קודקודים. נתון שב- $G$  יש מעגל המילטון. הוכיחו שתת הגרף של  $G$ , המתקבל ממחיקת כל הקשתות ששייכות למעגל המילטון, הוא בעל  $\frac{n}{2}$  רכיבי קשירות (בפרט, יש להוכיח ש- $n$  זוגי).
- 13** יהיו  $G_1 = (V, E_1)$ ,  $G_2 = (V, E_2)$  שני גרפים על אותה קבוצת קודקודים  $V$ . נגדיר את הגרף  $G = (V, E_1 \oplus E_2)$ , כאשר  $E_1 \oplus E_2$  הוא ההפרש הסימטרי של שתי קבוצות הקשתות (כל הקשתות שנמצאות ב- $E_1$  או ב- $E_2$  אבל לא בשתייהן). הוכיחו כי אם ב- $G_1, G_2$  יש מעגל אוילר ו- $G$  קשיר, אז גם בו יש מעגל אוילר.
- 14** יהי  $G = (V, E)$  גרף על  $n$  צמתים.  
א. הוכיחו כי אם  $|E| > \binom{n-1}{2} + 1$ , אז  $G$  המילטוני.  
ב. הוכיחו כי החסם הנ"ל הדוק. כלומר, כי הטענה:  
אם  $|E| \geq \binom{n-1}{2} + 1$ , אז  $G$  המילטוני – איננה נכונה.
- 15** נתון  $G = (V, E)$  גרף אוילרי שיש בו שלוש קשתות  $e_1, e_2, e_3 \in E$ , שלאחר הסרתן מהגרף,  $G$  נשאר אוילרי.  
א. הדגימו גרף כזה.  
ב. הוכיחו כי  $G$  לא דו"צ.

**16** נתון  $G$  גרף אוילר, ונגדיר שיטה: נבחר קודקוד, נתחיל ממנו מסלול, ונמשיך אותו כרצוננו כל עוד אפשר בלי לחזור על קשת פעמיים.  
 א. הוכיחו כי בשיטה זו תמיד נקבל מעגל.  
 ב. האם בשיטה זו מתקבל תמיד מעגל אוילר?  
 ג. נתון כי  $G$  גם המילטוני.  
 האם בהכרח יש בו מסלול שהוא גם מעגל אוילר וגם מעגל המילטון?

**17** יהי  $G$  גרף פשוט על  $n$  קודקודים, המכיל מעגל המילטון, ונתון כי על ידי השמטת קשתות המעגל מתקבלת תת גרף של  $G$  שהוא עץ.  
 האם ניתן על סמך הנתונים לקבוע כמה קשתות בגרף  $G$ ? אם כן, מהו מספר הקשתות?  
 (שאלה זו מופיעה גם בפרק מעגלים מיוחדים)

**18** יהי  $G$  גרף, לאו דווקא קשיר, שכל דרגותיו אי זוגיות. נבנה גרף  $H$  שקודקודיו הם קודקודי  $G$  ועוד קודקוד חדש  $v$ , שקשתותיו הם קשתות  $G$  וכל הקשתות האפשריות בין  $v$  לקודקודי  $G$ .  
 הוכיחו שב- $H$  יש מעגל אוילר.

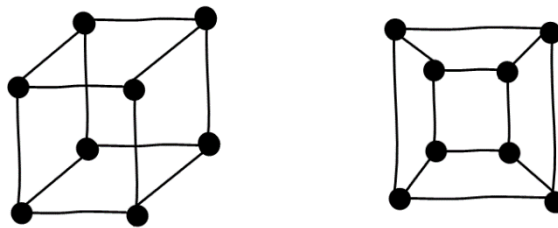
**19** הוכיחו או הפריכו: אם  $G = (V, E)$  אוילרי דו צדדי, אז:  $|V| \in \mathbb{N}_{even}$ .  
 (שאלה זו מופיעה גם בפרק גרף דו צדדי)

לפתרון מלא בסרטוני וידאו היכנסו לאתר [www.GooL.co.il](http://www.GooL.co.il)

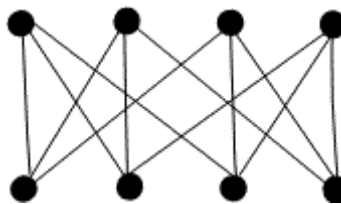
## איזומורפיזם

## שאלות

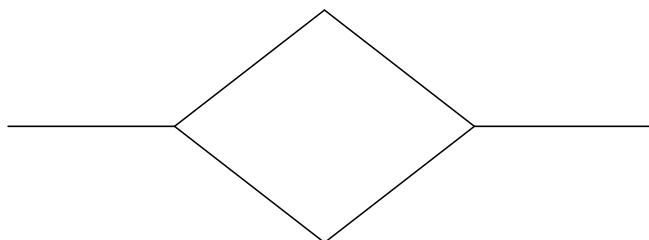
- (1) הוכיחו כי הגרפים הבאים איזומורפיים זה לזה.  
זה אומר שגרף הקובייה התלת מימדי הוא מישורי (כלומר, ניתן לשכן אותו במישור [למצוא גרף איזומורפי לו] מבלי שאף צלע חותכת צלע אחרת).



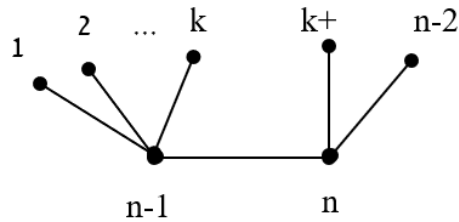
- (2) הוכיחו כי ניתן לשכן במישור את הגרף הבא.  
כלומר, קיים גרף  $G$  איזומורפי לו, מבלי שאף צלע ב- $G$  חותכת צלע אחרת.



- (3) יהיו  $G_1, G_2$  שני גרפים איזומורפיים.  
הוכיחו כי  $G_1$  חסר מעגלים  $\Leftrightarrow G_2$  חסר מעגלים, והסיקו כי  $G_1 \Leftrightarrow G_2$  עץ.  
(4) כמה גרפים שונים זה מזה ואיזומורפיים לגרף שמצויר להלן אפשר לבנות על קבוצת הקודקודים  $\{a, b, c, d, e, f\}$ ?

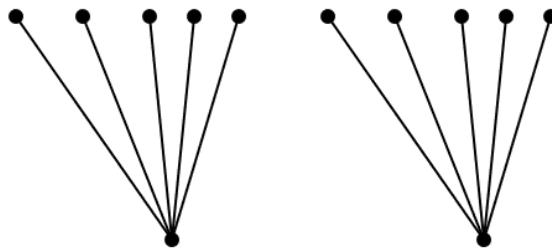


(5) כמה גרפים שונים על קבוצת הקודקודים  $V = \{1, 2, \dots, n\}$  איזומורפיים לגרף הבא:



תנו תשובה לכל  $k, n$  טבעיים המקיימים  $2 \leq k \leq n-3$ .  
הפרידו בין המקרים  $n = 2k+2$ ,  $n \neq 2k+2$ .

(6) כמה גרפים שונים על קבוצת הקודקודים  $V = \{v_1, v_2, \dots, v_{12}\}$  איזומורפיים לגרף הבא:



(7) הוכיחו או הפריכו:  
אם לשני גרפים אותה רשימת דרגות (כלומר, אם נסדר את דרגות קודקודי כל אחד מהגרפים בסדר עולה, נקבל אותה סדרה), אז הגרפים איזומורפיים.

(8) נגדיר  $C_n$  להיות מעגל על  $n$  קודקודים.  
לאילו ערכים של  $n$  מתקיים ש- $C_n$  איזומורפי ל- $\bar{C}_n$ ?  
(כאשר  $\bar{C}_n$  הוא הגרף המשלים)

(9) יהי  $T$  עץ.  
מהי העוצמה הגדולה ביותר האפשרית לקבוצה של עצים על קבוצת הקודקודים  $V = \{1, 2, 3, 4, 5, 6\}$ , שאף שניים מהם אינם איזומורפיים? (שאלה מאתגרת)

לפתרון מלא בסרטוני וידאו היכנסו לאתר [www.GooL.co.il](http://www.GooL.co.il)