

מבוא להסתברות



תוכן העניינים

1. סימן הסכימה (סיגמה) - רקע מתמטי..... 1
2. טורים עם איברים קבועים - קע מתמטי..... 4
3. טורי טיילור - מקלורן - רקע מתמטי..... 5
4. יסודות ההסתברות..... 8
5. פעולות בין מאורעות (חיתוך ואיחוד) - מאורעות זרים ומכילים..... 12
6. קומבינטוריקה - כלל המכפלה..... 21
7. קומבינטוריקה - תמורה - סידור עצמים בשורה..... 25
8. קומבינטוריקה - תמורה עם עצמים זהים..... 28
9. קומבינטוריקה - סידור עצמים במעגל..... 30
10. קומבינטוריקה - דגימה סידורית ללא החזרה ועם החזרה..... 33
11. קומבינטוריקה - דגימה ללא סדר וללא החזרה..... 35
12. הסתברות מותנית - במרחב מדגם אחיד..... 38
13. הסתברות מותנית - מרחב לא אחיד..... 41
14. דיאגרמת עצים - נוסחת בייס ונוסחת ההסתברות השלמה..... 45
15. תלות ואי תלות בין מאורעות..... 50
16. שאלות מסכמות בהסתברות..... 54
17. המשתנה המקרי הבדיד - פונקציית ההסתברות..... 59
18. המשתנה המקרי הבדיד - תוחלת - שונות וסטיית תקן..... 63
19. המשתנה המקרי הבדיד - תוחלת של פונקציה של משתנה מקרי בדיד..... 67
20. המשתנה המקרי הבדיד - טרנספורמציה לינארית..... 70
21. תוחלת ושונות של סכום משתנים מקריים..... 73
22. התפלגויות בדידות מיוחדות - התפלגות בינומית..... 76
23. התפלגויות בדידות מיוחדות - התפלגות גיאומטרית..... 80

תוכן העניינים

83	24. התפלגויות בדידות מיוחדות - התפלגות אחידה.
86	25. התפלגויות בדידות מיוחדות- התפלגות פואסונית
89	26. התפלגויות בדידות מיוחדות- התפלגות היפרגאומטרית
92	27. התפלגויות בדידות מיוחדות - התפלגות בינומית שלילית
95	28. המשתנה המקרי הבדיד - שאלות מסכמות
102	29. המשתנה המקרי הרציף - התפלגויות כלליות ללא אינטגרלים
108	30. התפלגויות רציפות מיוחדות- התפלגות מעריכית.
111	31. התפלגויות רציפות מיוחדות- התפלגות אחידה.
114	32. התפלגויות רציפות מיוחדות - התפלגות נורמלית
122	33. משתנה דו-מימדי בדיד - פונקציית הסתברות משותפת
128	34. משתנה דו מימדי בדיד - מתאם בין משתנים.
135	35. המשתנה המקרי הדו ממדי - קומבינציות ליניאריות
138	36. המשתנה המקרי הדו ממדי הבדיד - שאלות מסכמות.

מבוא להסתברות

פרק 1 - סימן הסכימה (סיגמה) - רקע מתמטי

תוכן העניינים

1. כללי 1

סימן הסכימה (סיגמה):

שאלות:

(1) כתוב בפירוט את הסכומים הבאים:

א. $\sum_{n=0}^{10} 4^n$	ב. $\sum_{k=1}^4 2k$	ג. $\sum_{n=4}^{10} na_n$
ד. $\sum_{i=7}^{11} 4i^2 a_i$	ה. $\sum_{t=1}^8 tx^t$	ו. $\sum_{k=4}^{10} na_k$
ז. $\sum_{k=1}^{10} 4n$	ח. $\sum_{k=-1}^3 (k^2+1)$	ט. $\sum_{l=1}^3 (l^2 - x_l - 4)$

(2) כתוב את הסכומים הבאים בעזרת סימן הסכימה:

א. $1+2+4+8+16+32+64+128$
ב. $2+4+6+8+10+12+14+16+18+20$
ג. $1+3+5+7+9+11+13+15+17+19$
ד. $1 \cdot 2 + 2 \cdot 3 + 3 \cdot 4 + 4 \cdot 5 + 5 \cdot 6 + 6 \cdot 7 + 7 \cdot 8$
ה. $1 \cdot 2 + 3 \cdot 4 + 5 \cdot 6 + \dots + 44 \cdot 45$
ו. $3 \cdot 2 + 6 \cdot 3 + 9 \cdot 4 + 12 \cdot 5 + 15 \cdot 6 + 18 \cdot 7 + 21 \cdot 8$
ז. $5^2 + 7^2 + \dots + 27^2$
ח. $\frac{1}{1 \cdot 2} + \frac{1}{2 \cdot 3} + \frac{1}{3 \cdot 4} + \dots + \frac{1}{10 \cdot 11}$
ט. $\frac{2}{3} + \frac{6}{9} + \frac{10}{27} + \frac{14}{81} + \frac{18}{243}$
י. $4 + \frac{8}{5} + \frac{12}{25} + \frac{16}{125} + \frac{20}{625}$

(3) חשב את הסכומים הבאים:

א. $\sum_{k=1}^{10} 4k$	ב. $\sum_{k=1}^{10} (2k+4k^2)$	ג. $\sum_{k=10}^{24} k(k-1)$
ד. $\sum_{k=10}^{24} \frac{k^3 - k}{k+1}$	ה. $\sum_{k=4}^{10} (k-2)(k+2)$	ו. $\sum_{k=1}^{10} (2k^2+1)(k-2)$

* תוכל להיעזר בנוסחאות הבאות: $\sum_{k=1}^n k = \frac{n(n+1)}{2}$, $\sum_{k=1}^n k^2 = \frac{n(n+1)(2n+1)}{6}$, $\sum_{k=1}^n k^3 = \left[\frac{n(n+1)}{2} \right]^2$

(4) חשב את הסכומים הבאים:

$$\text{א. } \sum_{k=1}^{20} \frac{5 \cdot 4^k + 8^k}{2^k} \quad \text{ב. } \sum_{k=1}^{11} \frac{2 \cdot 4^{k+2} + 10^k}{0.4^k} \quad \text{ג. } \sum_{k=10}^{20} 2^{2k+10}$$

$$* \text{ תוכל להיעזר בנוסחה הבאה: } \sum_{k=1}^n a^k = \frac{a(a^n - 1)}{a - 1} \quad (a \neq 1)$$

(5) חשב את הסכומים הבאים:

$$\text{א. } 1^2 + 2^2 + 3^2 + \dots + 20^2 \quad \text{ב. } 4^2 + 5^2 + 6^2 + \dots + 24^2$$

$$\text{ג. } 2^2 + 4^2 + 6^2 + \dots + 22^2 \quad \text{ד. } 1^2 + 3^2 + 5^2 + \dots + 17^2$$

(6) הוכח כי:

$$\text{א. } \sum_{k=1}^n \frac{2^{2k+4}}{k+2} = \sum_{k=0}^{n-1} \frac{2^{2k+6}}{k+3}$$

$$\text{ב. } \sum_{k=4}^{n-3} \frac{4k+17+2^{2k}}{k+1} = \sum_{k=8}^{n+1} \frac{4k+1+2^{2k-8}}{k-3}$$

(7) חשב את הסכומים הבאים ללא פיצול הסכום:

$$\text{א. } \sum_4^{11} k^2 \quad \text{ב. } \sum_{10}^{20} 4^{2k}$$

תשובות סופיות:

$$(1) \quad \text{א. } 4^0 + 4^1 + 4^2 + 4^3 + 4^4 + 4^5 + 4^6 + 4^7 + 4^8 + 4^9 + 4^{10}$$

$$\text{ב. } 2 \cdot 1 + 2 \cdot 2 + 2 \cdot 3 + 2 \cdot 4$$

$$\text{ג. } 4a_4 + 4a_5 + 4a_6 + 4a_7 + 4a_8 + 4a_9 + 4a_{10}$$

$$\text{ד. } 4 \cdot 7^2 a_7 + 4 \cdot 8^2 a_8 + 4 \cdot 9^2 a_9 + 4 \cdot 10^2 a_{10} + 4 \cdot 11^2 a_{11} + 4 \cdot 7^2 a_7$$

$$\text{ה. } 1x^1 + 2x^2 + 3x^3 + 4x^4 + 5x^5 + 6x^6 + 7x^7 + 8x^8$$

$$\text{ו. } na_5 + na_6 + na_7 + na_8 + na_9 + na_{10} + na_{11}$$

$$\text{ז. } 4n + 4n + 4n + 4n + 4n + 4n + 4n + 4n + 4n + 4n$$

$$\text{ח. } ((-1)^2 + 1) + (0^2 + 1) + (1^2 + 1) + (2^2 + 1) + (3^2 + 1)$$

$$\text{ט. } (1^2 - x_2 - 4) + (2^2 - x_4 - 4) + (3^2 - x_6 - 4)$$

$$(2) \quad \text{א. } \sum_{k=0}^7 2^k \quad \text{ב. } \sum_{k=1}^{10} 2k \quad \text{ג. } \sum_{k=0}^9 (2k+1) \quad \text{ד. } \sum_{k=1}^7 k(k+1)$$

$$\text{ה. } \sum_{k=1}^{22} (2k-1)2k \quad \text{ו. } \sum_{k=1}^7 3k(k+1) \quad \text{ז. } \sum_{n=3}^{14} (2n-1)^2$$

$$\text{ח. } \sum_{n=1}^{10} \frac{1}{n(n+1)} \quad \text{ט. } \sum_{k=1}^5 \frac{4k-2}{3^k} \quad \text{י. } \sum_{k=1}^4 \frac{4k}{5^{k-1}}$$

$$(3) \quad \text{א. } 220 \quad \text{ב. } 1650 \quad \text{ג. } 255 \quad \text{ד. } 9160 \quad \text{ה. } 28 \quad \text{ו. } 4545$$

$$(4) \quad \text{א. } 5 \cdot (2^{21} - 2) + \frac{4}{3} (4^{20} - 1) \quad \text{ב. } 32 \cdot \frac{10(10^{11} - 1)}{10 - 1} + \frac{25(25^{11} - 1)}{25 - 1}$$

$$\text{ג. } 2^{10} \left[\frac{4(4^{20} - 1)}{4 - 1} - \frac{4(4^9 - 1)}{4 - 1} \right]$$

$$(5) \quad \text{א. } 2870 \quad \text{ב. } 2856 \quad \text{ג. } 2024 \quad \text{ד. } 969$$

(6) הוכחה.

$$(7) \quad \text{א. } 9 \cdot 8 + 6 \cdot \frac{8(8+1)}{2} + \frac{8(8+1)(2 \cdot 8+1)}{6} \quad \text{ב. } 4^{18} \cdot \frac{16(16^{11} - 1)}{16 - 1}$$

מבוא להסתברות

פרק 2 - טורים עם איברים קבועים - קע מתמטי

תוכן העניינים

1. טורים מתכנסים וטורים מתבדרים..... 4

טורים מתכנסים וטורים מתבדרים

שאלות

טור גיאומטרי

בדקו את התכנסות הטורים הבאים.
 במידה והטור מתכנס, מצאו את סכומו.

$$\sum_{n=1}^{\infty} (-1)^n \frac{5^n}{4^{n+2}} \quad (3) \qquad \sum_{n=0}^{\infty} \frac{4^n}{7^{n+1}} \quad (2) \qquad \sum_{n=1}^{\infty} (0.44)^n \quad (1)$$

$$\sum_{n=1}^{\infty} \frac{2^{3n}}{3^{2n}} \quad (6) \qquad \sum_{n=1}^{\infty} \frac{4^n + (-5)^n}{7^n} \quad (5) \qquad \sum_{n=0}^{\infty} (-4) \left(\frac{3}{4}\right)^{2n} \quad (4)$$

תשובות סופיות

$$\begin{array}{lll} (1) \text{ מתכנס ל- } \frac{11}{14} & (2) \text{ מתכנס ל- } \frac{1}{3} & (3) \text{ מתבדר.} \\ (4) \text{ מתכנס ל- } -\frac{64}{7} & (5) \text{ מתכנס ל- } \frac{11}{12} & (6) \text{ מתכנס ל- } 8. \end{array}$$

מבוא להסתברות

פרק 3 - טורי טיילור - מקלורן - רקע מתמטי

תוכן העניינים

1. טור טיילור וטור מקלורן.....5
2. נוסחאות – טורי מקלורן של פונקציות חשובות.....7

טור טיילור וטור מקלורן

שאלות

בשאלות 1-24 מצאו את הפיתוח לטור טיילור סביב $x=0$ (טור מקלורן) :

$$f(x) = \sinh x \quad (3) \quad f(x) = x^2 e^{-4x} \quad (2) \quad f(x) = \sin 2x \quad (1)$$

$$f(x) = 2^x \quad (6) \quad f(x) = \cos^2 x \quad (5) \quad f(x) = \sin^2 x \quad (4)$$

$$f(x) = \arcsin x \quad (9) \quad f(x) = \ln(2 - 3x + x^2) \quad (8) \quad f(x) = x \cos(4x^2) \quad (7)$$

$$f(x) = \frac{1}{1+9x^2} \quad (12) \quad f(x) = \frac{3}{1-x^4} \quad (11) \quad f(x) = \frac{1}{1+x} \quad (10)$$

$$f(x) = \frac{x}{9+x^2} \quad (15) \quad f(x) = \frac{x}{4x+1} \quad (14) \quad f(x) = \frac{1}{x-5} \quad (13)$$

$$f(x) = \frac{1}{(1+x)^2} \quad (18) \quad f(x) = \frac{7x-1}{3x^2+2x-1} \quad (17) \quad f(x) = \frac{3}{x^2+x-2} \quad (16)$$

$$f(x) = \ln \frac{1+x}{1-x} \quad (21) \quad f(x) = \ln(1-x) \quad (20) \quad f(x) = \ln(1+x) \quad (19)$$

$$f(x) = \arctan\left(\frac{x}{3}\right) \quad (24) \quad f(x) = \frac{x^2}{(1-2x)^2} \quad (23) \quad f(x) = \ln(5-x) \quad (22)$$

הערות: לפתרון שאלות 15 ו-16, יש להכיר את הנושא פירוק לשברים חלקיים.
 לפתרון סעיפים 18, 19, 23 ו-24 יש להכיר את הנושא גזירה ואינטגרציה של טורי מקלורן.
 אפשר להיעזר בפיתוחים הידועים לטור מקלורן המופיעים בנספח.

בשאלות 25-27 מצאו את ארבעת האיברים הראשונים, השונים מאפס, בפיתוח לטור מקלורן של הפונקציות (נדרש ידע בכפל וחילוק של פולינומים):

$$f(x) = \frac{\sin x}{e^x} \quad (27) \quad f(x) = \tan x \quad (26) \quad f(x) = e^{-x^2} \cos x \quad (25)$$

תשובות סופיות

$$\sum_{n=0}^{\infty} \frac{x^{2n+1}}{(2n+1)!} \quad (3) \quad \sum_{n=0}^{\infty} (-1)^n \frac{4^n x^{n+2}}{n!} \quad (2) \quad \sum_{n=0}^{\infty} (-1)^n \frac{2^{2n+1} x^{2n+1}}{(2n+1)!} \quad (1)$$

$(-\infty < x < \infty) \quad \quad \quad (-\infty < x < \infty) \quad \quad \quad (-\infty < x < \infty)$

$$\sum_{n=0}^{\infty} \frac{(\ln 2)^n x^n}{n!} \quad (6) \quad \frac{1}{2} + \sum_{n=0}^{\infty} (-1)^n \frac{2^{2n-1} x^{2n}}{(2n)!} \quad (5) \quad \sum_{n=1}^{\infty} (-1)^{n+1} \frac{2^{2n-1} x^{2n}}{(2n)!} \quad (4)$$

$(-\infty < x < \infty) \quad \quad \quad (-\infty < x < \infty) \quad \quad \quad (-\infty < x < \infty)$

$$(-1 \leq x < 1) \ln 2 - \sum_{n=0}^{\infty} \left(1 + \frac{1}{2^{n+1}}\right) \frac{x^{n+1}}{n+1} \quad (8) \quad (-\infty < x < \infty) \sum_{n=0}^{\infty} (-1)^n \frac{4^{2n} x^{4n+1}}{(2n)!} \quad (7)$$

$$(|x| < 1) \sum_{n=0}^{\infty} (-1)^n x^n \quad (10) \quad x + \sum_{n=1}^{\infty} \frac{1 \cdot 3 \cdot \dots \cdot (2n-1)}{2 \cdot 4 \cdot \dots \cdot 2n} \cdot \frac{x^{2n+1}}{2n+1} \quad (9)$$

$(-1 < x < 1)$

$$(|x| < \frac{1}{3}) \sum_{n=0}^{\infty} (-1)^n 9^n x^{2n} \quad (12) \quad (|x| < 1) \sum_{n=0}^{\infty} 3x^{4n} \quad (11)$$

$$(|x| < \frac{1}{4}) \sum_{n=0}^{\infty} (-1)^n 4^n x^{n+1} \quad (14) \quad (|x| < 5) \sum_{n=0}^{\infty} \frac{-1}{5^{n+1}} x^n \quad (13)$$

$$(|x| < 1) \sum_{n=0}^{\infty} \left(\frac{(-1)^{n+1}}{2^{n+1}} - 1\right) x^n \quad (16) \quad (|x| < 3) \sum_{n=0}^{\infty} (-1)^n \frac{x^{2n+1}}{9^{n+1}} \quad (15)$$

$$(|x| < 1) \sum_{n=1}^{\infty} (-1)^{n+1} \cdot n \cdot x^{n-1} \quad (18) \quad (|x| < \frac{1}{3}) \sum_{n=0}^{\infty} (2(-1)^n - 3^n) x^n \quad (17)$$

$$(-1 \leq x < 1) \sum_{n=0}^{\infty} -\frac{x^{n+1}}{n+1} \quad (20) \quad (-1 < x \leq 1) \sum_{n=0}^{\infty} \frac{(-1)^n x^{n+1}}{n+1} \quad (19)$$

$$(-5 \leq x < 5) \ln 5 - \sum_{n=0}^{\infty} \frac{x^{n+1}}{5^{n+1}(n+1)} \quad (22) \quad (|x| < 1) \sum_{n=0}^{\infty} \frac{2x^{2n+1}}{2n+1} \quad (21)$$

$$(|x| \leq 3) \sum_{n=0}^{\infty} (-1)^n \frac{x^{2n+1}}{3^{2n+1}(2n+1)} \quad (24) \quad (|x| < \frac{1}{2}) \sum_{n=0}^{\infty} 2^n (n+1) x^{n+2} \quad (23)$$

$$x + \frac{x^3}{3} + \frac{2x^5}{15} + \frac{17x^7}{315} + \dots \quad (26) \quad 1 - \frac{3}{2}x^2 + \frac{25}{24}x^4 - \frac{331}{720}x^6 + \dots \quad (25)$$

$$x - x^2 + \frac{1}{3}x^3 - \frac{1}{30}x^5 + \dots \quad (27)$$

נוסחאות – טורי מקלורן של פונקציות חשובות

<u>טור מקלורן</u>	<u>תחום התכנסות</u>
$e^x = \sum_{n=0}^{\infty} \frac{x^n}{n!} = 1 + \frac{x^1}{1!} + \frac{x^2}{2!} + \frac{x^3}{3!} + \dots$	$-\infty < x < \infty$
$\sin x = \sum_{n=0}^{\infty} (-1)^n \frac{x^{2n+1}}{(2n+1)!} = x - \frac{x^3}{3!} + \frac{x^5}{5!} - \frac{x^7}{7!} + \dots$	$-\infty < x < \infty$
$\cos x = \sum_{n=0}^{\infty} (-1)^n \frac{x^{2n}}{(2n)!} = 1 - \frac{x^2}{2!} + \frac{x^4}{4!} - \frac{x^6}{6!} + \dots$	$-\infty < x < \infty$
$\ln(1+x) = \sum_{n=0}^{\infty} (-1)^n \frac{x^{n+1}}{n+1} = x - \frac{x^2}{2} + \frac{x^3}{3} - \frac{x^4}{4} + \dots$	$-1 < x \leq 1$
$\arctan x = \sum_{n=0}^{\infty} (-1)^n \frac{x^{2n+1}}{2n+1} = x - \frac{x^3}{3} + \frac{x^5}{5} - \frac{x^7}{7} + \dots$	$-1 \leq x \leq 1$
$\frac{1}{1-x} = \sum_{n=0}^{\infty} x^n = 1 + x^1 + x^2 + x^3 + \dots$	$-1 < x < 1$
$(1+x)^m = 1 + \sum_{n=1}^{\infty} \frac{m(m-1) \cdot \dots \cdot (m-n+1)}{n!} x^n$	$-1 \leq x \leq 1 \quad (m > 0)$
$= 1 + mx + \frac{m(m-1)}{2!} x^2 + \frac{m(m-1)(m-2)}{3!} x^3 + \dots$	$-1 < x \leq 1 \quad (-1 < m < 0)$
	$-1 < x < 1 \quad (m \leq -1)$
	$m \neq 0, 1, 2, 3, \dots$

מבוא להסתברות

פרק 4 - יסודות ההסתברות

תוכן העניינים

1. כללי 8

הגדרות יסודיות:

רקע:

ניסוי מקרי: תהליך לו כמה תוצאות אפשריות. התוצאה המתקבלת נודעת רק לאחר ביצוע התהליך. למשל: תוצאה בהטלת קובייה, מזג האוויר בעוד שבועיים.

מרחב מדגם: כלל התוצאות האפשריות בניסוי המקרי. לדוגמה, בהטלת קובייה: $\{1, 2, 3, 4, 5, 6\}$, או: מזג האוויר בעוד שבועיים: $\{\text{נאה, שרבי, מושלג, גשום, מעונן חלקית, אביד}\}$.

מאורע: תת קבוצה מתוך מרחב במדגם. מסומן באותיות: A, B, C . בהטלת קובייה למשל, המאורע 'לקבל לפחות 5 יסומן: $A = \{5, 6\}$. המאורע 'לקבל תוצאה זוגית' יסומן: $B = \{2, 4, 6\}$.

גודל מרחב המדגם: מספר התוצאות האפשריות במרחב המדגם. בהטלת קובייה למשל נקבל: $|\Omega| = 6$.

גודל המאורע: מספר התוצאות האפשריות במאורע עצמו. למשל, בהטלת הקובייה האירועים הקודמים יסומנו: $|A| = 2, |B| = 3$.

מאורע משלים: מאורע המכיל את כל התוצאות האפשריות במרחב המדגם פרט לתוצאות במאורע אותו הוא משלים. למשל, בהטלת הקובייה: $\bar{A} = \{1, 2, 3, 4\}$, $\bar{B} = \{1, 3, 5\}$.

מרחב מדגם אחיד (סימטרי): מרחב מדגם בו לכל התוצאות במרחב המדגם יש את אותה עדיפות, אותה סבירות למשל, קובייה הוגנת, אך לא כמו מזג האוויר בשבוע הבא.

הסתברות במרחב מדגם אחיד: במרחב מדגם אחיד הסיכוי למאורע יהיה: $P(A) = \frac{|A|}{|\Omega|}$.

דוגמה: מה הסיכוי בהטלת קובייה לקבל לפחות 5? $P(A) = \frac{|A|}{|\Omega|} = \frac{2}{6}$

דוגמה: מה הסיכוי בהטלת קובייה לקבל תוצאה זוגית? $P(B) = \frac{|B|}{|\Omega|} = \frac{3}{6}$

הסתברות במרחב לא אחיד: תחושב לפי השכיחות היחסית: $\frac{f}{n}$.

דוגמה:

להלן התפלגות הציונים בכיתה מסוימת:

מספר התלמידים – השכיחות – f	הציון – x
2	5
4	6
8	7
5	8
4	9
2	10

מה ההסתברות שתלמיד אקראי שניבחר בכיתה קיבל את הציון 8? $\frac{f}{n} = \frac{5}{25} = 0.2$

מה ההסתברות שתלמיד אקראי שניבחר בכיתה יכשל? $\frac{f}{n} = \frac{2}{25} = 0.08$

הסתברות למאורע משלים: הסתברות לקבוצת המשלים של המאורע ביחס למרחב המדגם: $P(\bar{A}) = 1 - P(A)$. למשל, בדוגמה הקודמת הסיכוי לעבור את הבחינה יכול

להיות מחושב לפי הסיכוי להיכשל: $P(\bar{A}) = 1 - \frac{2}{25} = \frac{23}{25}$.

שאלות:

- (1) מהאותיות E, F ו-G יש ליצור מילה בת 2 אותיות, לא בהכרח בת משמעות.
 א. הרכיבו את כל המילים האפשריות.
 ב. רשמו את המקרים למאורע:
 i. במילה נמצאת האות E.
 ii. במילה האותיות שונות.
 ג. רשמו את המקרים למאורע \bar{A} .

- (2) מטילים זוג קוביות.
 א. רשמו את מרחב המדגם של הניסוי. האם מרחב המדגם אחיד?
 ב. רשמו את כל האפשרויות לאירועים הבאים:
 i. סכום התוצאות 7.
 ii. מכפלת התוצאות 12.
 ג. חשבו את הסיכויים לאירועים שהוגדרו בסעיף ב'.

- (3) נבחר באקראי ספרה מבין הספרות 0-9.
 א. מה ההסתברות שהספרה שנבחרה גדולה מ-5?
 ב. מה ההסתברות שהספרה שנבחרה היא לכל היותר 3?
 ג. מה ההסתברות שהספרה שנבחרה היא אי זוגית?

- (4) להלן התפלגות מספר מקלטי הטלוויזיה עבור כל משפחה בישוב מסוים:

10	22	18	28	22	מספר משפחות
4	3	2	1	0	מספר מקלטים

- נבחרה משפחה באקראי מהישוב.
 א. מה ההסתברות שאין מקלטים למשפחה?
 ב. מה ההסתברות שיש מקלטים למשפחה?
 ג. מה ההסתברות שיש לפחות 3 מקלטים למשפחה?

- (5) להלן התפלגות מספר המכוניות למשפחה ביישוב "עדן":

10	30	100	40	20	מספר משפחות
4	3	2	1	0	מספר מכוניות

- נבחרה משפחה אקראית מן הישוב.
 א. מה ההסתברות שאין לה מכוניות?
 ב. מה ההסתברות שבבעלות המשפחה לפחות 3 מכוניות?
 ג. מה הסיכוי שבבעלותה פחות מ-3 מכוניות?

- 6) נטיל מטבע רגיל 3 פעמים. בצד אחד של המטבע מוטבע עץ ובצד השני פלי.
- א. רשמו את מרחב המדגם של הניסוי. האם מרחב המדגם הוא אחיד?
- ב. רשמו את כל האפשרויות לאירועים הבאים:
- i. התקבל פעם אחת עץ.
- ii. התקבל לפחות פלי אחד.
- ג. מהו המאורע המשלים ל-D?
- ד. חשבו את הסיכויים לאירועים שהוגדרו בסעיפים ב-ג.

תשובות סופיות:

- 1) א. $\Omega = \{EE, EF, EG, FE, FF, FG, GE, GF, GG\}$
- ב. $A = \{EE, EF, EG, FE, GE\}$, $B = \{EF, EG, FE, FG, GE, GF\}$
- ג. $\bar{A} = \{FF, FG, GF, GG\}$
- 2) א. $\Omega = \left\{ \begin{matrix} (1,1) & (2,1) & (3,1) & (5,1) & (4,1) & (6,1) \\ (1,2) & (2,2) & (3,2) & (4,2) & (5,2) & (6,2) \\ (1,3) & (2,3) & (3,3) & (4,3) & (5,3) & (6,3) \\ (1,4) & (2,4) & (3,4) & (4,4) & (5,4) & (6,4) \\ (1,5) & (2,5) & (3,5) & (4,5) & (5,5) & (6,5) \\ (1,6) & (2,6) & (3,6) & (4,6) & (5,6) & (6,6) \end{matrix} \right\}$
- ב. $A = \{(1,6), (2,5), (3,4), (4,3), (5,2), (6,1)\}$, $C = \{(2,6), (3,4), (4,3), (6,2)\}$
- ג. הסיכוי ל-A: $\frac{1}{6}$ הסיכוי ל-B: $\frac{1}{9}$
- 3) א. 0.4 ב. 0.4 ג. 0.5
- 4) א. 0.22 ב. 0.78 ג. 0.32
- 5) א. 0.1 ב. 0.2 ג. 0.8
- 6) א. $\Omega = \{PPP, PPE, PEP, EPP, PEE, EPE, EEP, EEE\}$
- ב. $A = \{PPE, PEP, EPP\}$, $D = \{PPP, PPE, PEP, EPP, PEE, EPE, EEP\}$
- ג. $\bar{D} = \{EEE\}$
- ד. $\frac{1}{8}$

מבוא להסתברות

פרק 5 - פעולות בין מאורעות (חיתוך ואיחוד) - מאורעות זרים ומכילים

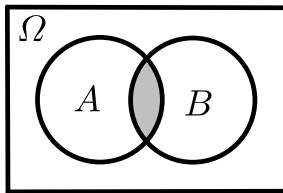
תוכן העניינים

1. כללי 12

פעולות בין מאורעות (חיתוך ואיחוד) – מאורעות זרים ומכילים:

רקע:

פעולת חיתוך:

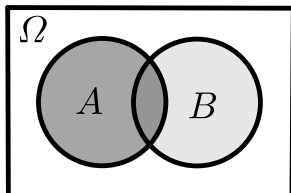


נותנת את המשותף בין המאורעות הנחתכים.
 חיתוך בין המאורע A למאורע B יסומן כך: $A \cap B$.
 מדובר בתוצאות שנמצאות ב- A וגם ב- B .

דוגמה:

בהטלת קובייה, למשל, האפשרויות לקבל לפחות 5 הן: $A = \{5, 6\}$.
 האפשרויות לקבל תוצאה זוגית הן: $B = \{2, 4, 6\}$.
 החיתוך שביניהם הוא: $A \cap B = \{6\}$.

פעולת איחוד:



נותנת את כל האפשרויות שנמצאות לפחות באחת מהמאורעות, ומסומנת: $A \cup B$.
 הפעולה נותנת את אשר נמצא ב- A או ב- B .
 כלומר, לפחות אחד מהמאורעות קורה.

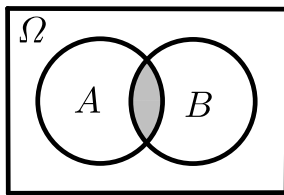
דוגמה:

בהטלת קובייה האפשרויות לקבל לפחות 5 הן: $A = \{5, 6\}$.
 האפשרויות לקבל תוצאה זוגית: $B = \{2, 4, 6\}$.
 האפשרויות לקבל לפחות 5 וגם תוצאה זוגית: $A \cup B = \{2, 4, 5, 6\}$.

דוגמה (הפתרון נמצא בהקלטה):

סטודנט ניגש בסמסטר לשני מבחנים. מבחן בסטטיסטיקה ומבחן בכלכלה. ההסתברות שלו לעבור את המבחן בסטטיסטיקה הוא 0.9, ההסתברות שלו לעבור את המבחן בכלכלה הוא 0.8 וההסתברות לעבור את המבחן בסטטיסטיקה ובכלכלה היא 0.75. מה ההסתברות שלו לעבור את המבחן בסטטיסטיקה בלבד? מה ההסתברות שלו להיכשל בשני המבחנים? מה ההסתברות לעבור לפחות מבחן אחד?

נוסחת החיבור לשני מאורעות:



ההסתברות של איחוד מאורעות תחושב ע"י הקשר הבא:

$$P(A \cup B) = P(A) + P(B) - P(A \cap B)$$

חוקי דה מורגן לשני מאורעות:

$$\overline{A \cup B} = \bar{A} \cap \bar{B}$$

$$\overline{A \cap B} = \bar{A} \cup \bar{B}$$

$$P(A \cap B) = 1 - P(\bar{A} \cup \bar{B})$$

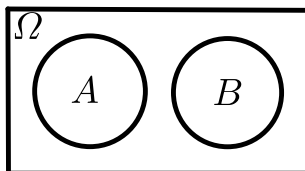
$$P(A \cup B) = 1 - P(\bar{A} \cap \bar{B})$$

שיטת ריבוע הקסם:

השיטה רלבנטית רק אם יש שני מאורעות במקביל בדומה לתרגיל הקודם:

	\bar{A}	A	
B	$P(\bar{A} \cap B)$	$P(A \cap B)$	$P(B)$
\bar{B}	$P(\bar{A} \cap \bar{B})$	$P(A \cap \bar{B})$	$P(\bar{B})$
	$P(\bar{A})$	$P(A)$	1

מאורעות זרים:



מאורעות זרים הם כאשר אין להם אף איבר משותף: $A \cap B = \{ \}$. כלומר, הם לא יכולים להתרחש בו זמנית.

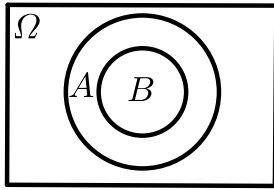
ההסתברות של חיתוך המאורעות היא אפס: $P(A \cap B) = 0$.

ההסתברות של איחוד המאורעות תחושב: $P(A \cup B) = P(A) + P(B)$.

דוגמה:

בהטלת קובייה, האפשרויות לקבל לפחות 5 הן: $A = \{5, 6\}$ והאפשרות לקבל 3

היא: $B = \{3\}$, ולכן החיתוך ביניהם הוא אפס, כלומר: $A \cap B = \{ \}$.

מאורעות מוכלים:


נתונים שני מאורעות A ו- B , השונים מאפס. נאמר שהמאורע B מוכל במאורע A אם כל איברי המאורע B כלולים במאורע A ונרשום: $B \subset A$.

מאורע A מכיל את מאורע B כל התוצאות שנמצאות ב- B מוכלות בתוך מאורע A .

קשר זה מסומן באופן הבא: $B \subset A$.

$$A \cap B = B \quad P(A \cap B) = P(B)$$

$$A \cup B = A \quad P(A \cup B) = P(A)$$

$$A = \{2, 4, 6\}$$

$$B = \{2, 4\}$$

למשל:

שאלות:

- (1) מהאותיות E, F ו- G יוצרים מילה בת 2 אותיות – לא בהכרח בת משמעות. נגדיר את המאורעות הבאים:
- A - במילה נמצאת האות E .
 - B - במילה אותיות שונות.
- א. רשמו את כל האפשרויות לחיתוך A עם B .
- ב. רשמו את כל האפשרויות לאיחוד של A עם B .
- (2) תלמיד ניגש בסמסטר לשני מבחנים מבחן בכלכלה ומבחן בסטטיסטיקה. נגדיר את המאורעות הבאים:
- A - לעבור את המבחן בסטטיסטיקה.
 - B - לעבור את המבחן בכלכלה.
- היעזרו בפעולות חיתוך, איחוד ומשלים בלבד כדי להגדיר את המאורעות הבאים וסמנו בדיאגרמת וון את השטח המתאים:
- א. התלמיד עבר רק את המבחן בכלכלה.
 - ב. התלמיד עבר רק את המבחן בסטטיסטיקה.
 - ג. התלמיד עבר את שני המבחנים.
 - ד. התלמיד עבר לפחות מבחן אחד.
 - ה. התלמיד נכשל בשני המבחנים.
 - ו. התלמיד נכשל בכלכלה.
- (3) נתבקשתם לבחור ספרה באקראי. נגדיר את A להיות הספרה שנבחרה היא זוגית. נגדיר את B להיות הספרה שנבחרה קטנה מ-5.
- א. רשמו את כל התוצאות למאורעות הבאים:
 $A \cup B, A \cap B, \bar{B}, B, A$
 - ב. חשבו את ההסתברויות לכל המאורעות מהסעיף הקודם.
- (4) נסמן ב- Ω את מרחב המדגם וב- ϕ קבוצה ריקה. נתון כי A הינו מאורע בתוך מרחב המדגם. להלן מוגדרים מאורעות שפתרונם הוא Ω או ϕ או A . קבעו עבור כל מאורע מה הפתרון שלו:
- $A \cup \bar{A}, \bar{\phi}, A \cap \bar{A}, A \cup \Omega, A \cap \Omega, A \cup \phi, A \cap \phi, \bar{A}$

(5) הוגדרו המאורעות הבאים :

A - אדם שגובהו מעל 1.7 מטר

B - אדם שגובהו מתחת ל-1.8 מטר.

קבעו את גובהם של האנשים הבאים :

א. $A \cap B$

ב. $A \cup B$

ג. $\overline{A} \cap B$

ד. $\overline{A} \cup \overline{B}$

ה. $\overline{\overline{A}}$

(6) נגדיר את המאורעות הבאים :

A - אדם דובר עברית.

B - אדם דובר ערבית.

C - אדם דובר אנגלית.

השתמשו בפעולות איחוד, חיתוך והשלמה לתיאור המאורעות הבאים :

א. אדם דובר את כל שלוש השפות.

ב. אדם דובר רק עברית.

ג. אדם דובר לפחות שפה אחת מתוך השפות הללו.

ד. אדם אינו דובר אנגלית.

ה. קבוצת התלמידים שדוברים שתי שפות בדיוק (מהשפות הנ"ל).

(7) שתי מפלגות רצות לכנסת הבאה. מפלגת "גדר" תעבור את אחוז החסימה בהסתברות של 0.08 ומפלגת "עמיד" תעבור את אחוז החסימה בהסתברות של 0.20. בהסתברות של 76% שתי המפלגות לא תעבורנה את אחוז החסימה.

א. מה ההסתברות שלפחות אחת מהמפלגות תעבור את אחוז החסימה?

ב. מה ההסתברות ששתי המפלגות תעבורנה את אחוז החסימה?

ג. מה ההסתברות שרק מפלגות "עמיד" תעבור את אחוז החסימה?

(8) במקום עבודה מסוים 40% מהעובדים הם גברים. כמו כן, 20% מהעובדים הם אקדמאים. 10% מהעובדים הינן נשים אקדמאיות.

א. איזה אחוז מהעובדים הם גברים אקדמאיים?

ב. איזה אחוז מהעובדים הם גברים או אקדמאיים?

ג. איזה אחוז מהעובדים הם נשים לא אקדמאיות?

9) הסיכוי של מניה A לעלות הנו 0.5 ביום מסוים והסיכוי של מניה B לעלות ביום מסוים הנו 0.4. בסיכוי של 0.7 לפחות אחת מהמניות תעלה ביום מסוים. חשבו את ההסתברויות הבאות לגבי שתי המניות הללו ביום מסוים:

א. ששתי המניות תעלנה.

ב. שאף אחת מהמניות לא תעלנה.

ג. שמניה A בלבד תעלה.

10) מטילים זוג קוביות, אדומה ושחורה. נגדיר את המאורעות הבאים:

A - בקובייה האדומה התקבלה התוצאה 4 ובשחורה 2.

B - סכום התוצאות משתי הקוביות הוא 6.

C - מכפלת התוצאות בשתי הקוביות היא 10.

א. האם A ו-B מאורעות זרים?

ב. האם המאורע B מכיל את המאורע A?

ג. האם A ו-C מאורעות זרים?

ד. האם A ו-C מאורעות משלימים?

11) עבור המאורעות A ו-B ידועות ההסתברויות הבאות: $P(A) = 0.6$,

$$P(\bar{A} \cap \bar{B}) = 0.1, P(B) = 0.3$$

א. האם A ו-B מאורעות זרים?

ב. חשבו את $P(\bar{A} \cap B)$.

12) מטבע הוטל פעמיים. נגדיר את המאורעות הבאים:

A - קיבלנו עץ בהטלה הראשונה.

B - קיבלנו לפחות עץ אחד בשתי ההטלות.

איזו טענה נכונה?

א. A ו-B מאורעות זרים.

ב. A ו-B מאורעות משלימים.

ג. B מכיל את A.

ד. A מכיל את B.

13) בהגרלה חולקו 100 כרטיסים. על 3 מהם רשום חופשה ועל 2 מהם רשום מחשב

שאר הכרטיסים ריקים. אדם קיבל כרטיס אקראי.

א. מה הסיכוי לזכות בחופשה או במחשב? האם המאורעות הללו זרים?

ב. מה ההסתברות לא לזכות בפרס?

14 נתון כי: $P(A) = 0.3$, $P(B) = 0.25$, $P(A \cup B) = 0.49$

- א. חשבו את הסיכוי ל- $P(A \cap B)$.
 ב. האם A ו- B מאורעות זרים?
 ג. מה ההסתברות שרק A יקרה או שרק B יקרה?

15 A ו- B מאורעות זרים. נתון ש: $2 \cdot P(B \cap \bar{A}) = P(A \cap \bar{B}) = P(\bar{A} \cap \bar{B})$.

מה הסיכוי למאורע A ומה ההסתברות למאורע B ?

16 קבעו אילו מהטענות הבאות נכונות:

- א. $A \cap B = B \cap A$.
 ב. $\overline{A \cup B} = A \cap B$.
 ג. $A \cap B \cap C = A \cap B \cap (C \cup B)$.
 ד. $\overline{A \cap B \cap C} = \bar{A} \cup \bar{B} \cup \bar{C}$.

17 נתון ש- A ו- B מאורעות במרחב מדגם. נתון ש- $P(A) = 0.3$, $P(B) = 0.2$.

- א. האם יתכן ש- $P(A \cup B) = 0.4$?
 ב. האם יתכן ש- $P(A \cup B) = 0.6$?
 ג. אם A ו- B זרים מה הסיכוי $P(A \cup B)$?
 ד. אם A מכיל את B מה הסיכוי $P(A \cup B)$?

18 מתוך אזרחי המדינה הבוגרים ל-30% חשבון בבנק הפועלים. ל-28% חשבון בבנק לאומי ול-15% חשבון בבנק מזרחי. כמו כן נתון כי 6% מחזיקים חשבון בבנק לאומי ובבנק הפועלים. ל-5% חשבון בבנק פועלים ומזרחי. ול-4% חשבון בבנק לאומי ומזרחי. כמו כן ל-1% מהאוכלוסייה הבוגרת חשבון בנק בשלושת הבנקים יחד.

- א. מה אחוז האזרחים להם חשבון בבנק לאומי בלבד?
 ב. מה ההסתברות שאזרח כלשהו יחזיק חשבון בבנק פועלים ולאומי אבל לא בבנק מזרחי?
 ג. מה ההסתברות שלאזרח יהיה חשבון בפועלים או במזרחי אבל לא בבנק לאומי?
 ד. מה אחוז האזרחים שיש להם חשבון בנק אחד בלבד?
 ה. מה אחוז האזרחים שיש להם חשבון בשני בנקים בלבד?
 ו. מה ההסתברות שלאזרח בוגר אין חשבון בנק באף אחד מהבנקים הללו?
 ז. לאיזה אחוז מהאזרחים יש חשבון בנק בלפחות אחד מהבנקים הללו?

- 19** חברה מסוימת פרסמה את הנתונים הבאים לגבי האזרחים מעל גיל 21. הנתונים שהתקבלו היו: 40% מהאנשים מחזיקים כרטיס "ויזה", 52% מחזיקים כרטיס "ישראלכרט", 20% מחזיקים כרטיס "אמריקן אקספרס", 15% מחזיקים כרטיס ויזה וגם ישראלכרט, 8% מחזיקים כרטיס ישראלכרט וגם אמריקן אקספרס ו-7% מחזיקים כרטיס ויזה וגם אמריקן אקספרס. כמו כן, 13% לא מחזיקים באף אחד משלושת הכרטיסים הנ"ל.
- א. מה אחוז מחזיקי שלושת כרטיס האשראי גם יחד?
- ב. מה אחוז מחזיקי ישראלכרט וויזה אך לא את אמריקן אקספרס?
- ג. מה אחוז מחזיקי כרטיס אחד בלבד?

20 הוכיחו: $P(\bar{A} \cap \bar{B}) = 1 - P(A) - P(B) + P(A \cap B)$.

- 21** A ו- B מאורעות במרחב המדגם. האם נכון לומר שהסיכוי שיתרחש בדיוק מאורע אחד הוא: $P(A) + P(B) - 2P(A \cap B)$?

תשובות סופיות:

- (1) א. $A \cap B = \{EG, EF, FE, GE\}$
 ב. $A \cup B = \{EG, EF, EE, FE, GE, EG, GF\}$
- (2) א. $B \cap \bar{A}$ ב. $A \cap \bar{B}$ ג. $A \cap B$ ד. $A \cup B$ ה. $\bar{A} \cap \bar{B}$ ו. \bar{B}
- (3) א. $A = 0, 2, 4, 6, 8, B = 0, 1, 2, 3, 4, \bar{B} = 5, 6, 7, 8, 9$
 $A \cap B = 0, 2, 4, A \cup B = 0, 2, 4, 6, 8, 1, 3$
- ב. $P(A \cup B) = 0.7, P(A \cap B) = 0.3, P(\bar{B}) = 0.5, P(B) = 0.5, P(A) = 0.5$
- (4) $\bar{\bar{A}} = A, A \cap \phi = \phi, A \cup \phi = A, A \cap \Omega = A, A \cup \Omega = \Omega$
 $A \cap \bar{A} = \phi, \bar{\phi} = \Omega, A \cup \bar{A} = \Omega$
- (5) א. $A \cap B$: גובה בין 1.7 ל-1.8.
 ב. $A \cup B$: כל גובה אפשרי.
 ג. $\bar{A} = \bar{A} \cap B$: גובה לכל היותר 1.7.
 ד. $\bar{A} \cup \bar{B}$: לכל היותר 1.7 או לפחות 1.8.
 ה. $A = \bar{\bar{A}}$: גובה מעל 1.7.
- (6) א. $A \cap B \cap C$ ב. $A \cap \bar{B} \cap \bar{C}$ ג. $A \cup B \cup C$
 ד. \bar{C} ה. $(A \cap B \cap \bar{C}) \cup (B \cap C \cap \bar{A}) \cup (A \cap C \cap \bar{B})$
- (7) א. $P(A \cup B) = 0.24$ ב. $P(A \cap B) = 0.04$ ג. $P(B \cap \bar{A}) = 0.16$
- (8) א. $P(A \cap B) = 10\%$ ב. $P(A \cup B) = 50\%$ ג. $P(\bar{A} \cap \bar{B}) = 50\%$
- (9) א. $P(A \cap B) = 0.2$ ב. $P(\bar{A} \cap \bar{B}) = 0.3$ ג. $P(A \cup \bar{B}) = 0.3$
- (10) א. לא. ב. כן. ג. כן. ד. לא.
- (11) א. כן. ב. $P(\bar{A} \cap B) = 0.3$
- (12) הטענה הנכונה היא ג'.
- (13) א. 0.05. ב. 0.95.
- (14) א. $P(A \cap B) = 0.06$ ב. לא. ג. $P((A \cap \bar{B}) \cup (B \cap \bar{A})) = 0.43$
- (15) $P(B) = \frac{1}{5}, P(A) = \frac{2}{5}$
- (16) א. נכון. ב. לא נכון. ג. לא נכון. ד. נכון.
- (17) א. כן. ב. לא. ג. $P(A \cup B) = 0.5$ ד. $P(A \cup B) = 0.3$
- (18) א. 19%. ב. 0.05. ג. 0.31. ד. 46%. ה. 12%. ו. 0.41.
- (19) א. 5%. ב. 10%. ג. 67%.
- (20) שאלת הוכחה.
- (21) נכון.

מבוא להסתברות

פרק 6 - קומבינטוריקה - כלל המכפלה

תוכן העניינים

21 1. כללי

קומבינטוריקה – כלל המכפלה:

רקע:

כלל המכפלה:

כלל המכפלה הוא כלל שבאמצעותו אפשר לחשב את גודל המאורע או גודל מרחב המדגם.

אם לתהליך יש k שלבים: n_1 אפשרויות לשלב הראשון, n_2 אפשרויות לשלב השני... n_k

אפשרויות לשלב k :

מספר האפשרויות לתהליך כולו יהיה: $n_1 \cdot n_2 \cdot n_3 \cdots n_k$

למשל, כמה אפשרויות יש למשחק בו מטיילים קובייה וגם מטבע? (הסבר בהקלטה)

$$n_1 = 6, n_2 = 2$$

$$n_1 \cdot n_2 = 6 \cdot 2 = 12$$

למשל, כמה לוחיות רישוי בני 5 תווים ניתן ליצור כאשר התו הראשון הוא אות אנגלית והיתר ספרות? (הסבר בהקלטה)

$$n_1 = 26, n_2 = 10, n_3 = 10, n_4 = 10, n_5 = 10$$

$$n_1 \cdot n_2 \cdot n_3 \cdot n_4 \cdot n_5 = 26 \cdot 10 \cdot 10 \cdot 10 \cdot 10 = 260,000$$

שאלות:

- (1) חשבו את מספר האפשרויות לתהליכים הבאים:
- הטלת קובייה פעמים.
 - מספר תלת ספרתי.
 - בחירת בן ובת מכתה שיש בה שבעה בנים ועשר בנות.
 - חלוקת שני פרסים שונים לעשרה אנשים שונים כאשר אדם לא יכול לקבל יותר מפרס אחד.
- (2) במסעדה מציעים ארוחה עסקית.
- בארוחה עסקית יש לבחור מנה ראשונה, מנה עיקרית ושתייה. האופציות למנה ראשונה הן: סלט ירקות, סלט אנטיפסטי ומרק היום. האופציות למנה עיקרית הן: סטייק אנטריקוט, חזה עוף בגריל, לזניה בשרית ולזניה צמחונית. האופציות לשתייה הן: קפה, תה ולימונדה.
- כמה ארוחות שונות ניתן להרכיב בעזרת התפריט הזה?
 - אדם מזמין ארוחה אקראית. חשב את ההסתברויות הבאות:
 - בארוחה סלט ירקות, לזניה בשרית ולימונדה.
 - בארוחה סלט, לזניה ותה.
- (3) בוחרים באקראי מספר בין חמש ספרות. חשבו את ההסתברויות הבאות:
- המספר הוא זוגי.
 - במספר כל הספרות שונות.
 - במספר כל הספרות זהות.
 - במספר לפחות שתי ספרות שונות.
 - במספר לפחות שתי ספות זהות.
 - המספר הוא פלינדרום (מספר הנקרא מימין ומשמאל באות הצורה).
- (4) חישה אנשים אקראיים נכנסו למעלית בבניין בן 8 קומות. חשבו את ההסתברויות הבאות:
- כולם ירו בקומה החמישית.
 - כולם ירדו באותה קומה.
 - כולם ירדו בקומה אחרת.
 - ערך ודני ירדו בקומה השישית והיתר בשאר הקומות.

- (5) במפלגה חמישה עשר חברי כנסת. יש לבחור שלושה חברי כנסת לשלושה תפקידים שונים. בכמה דרכים ניתן לחלק את התפקידים הבאים אם:
- חבר כנסת יכול למלא יותר מתפקיד אחד.
 - חבר כנסת לא יכול למלא יותר מתפקיד אחד.
- (6) מטילים קובייה 4 פעמים.
- מה ההסתברות שכל התוצאות תהינה זהות?
 - מה ההסתברות שכל התוצאות תהינה שונות?
 - מה ההסתברות שלפחות שתי תוצאות תהינה זהות?
 - מה ההסתברות שלפחות שתי תוצאות תהינה שונות?
- (7) יש ליצור מילה בת חמש אותיות, לא בהכרח עם משמעות מאותיות ה-ABC (26 אותיות).
- מה ההסתברות שבמילה שנוצרה אין האותיות A, D ו-L?
 - מה ההסתברות שבמילה שנוצרה כל האותיות זהות?
 - מה ההסתברות שבמילה שנוצרה לפחות שתי אותיות שונות זו מזו?
 - מה ההסתברות שהמילה היא פלינדרום? (מילה אשר משמאל לימין, ומימין לשמאל נקראת אותו הדבר).
- (8) יוצרים קוד עם a ספרות (מותר לחזור על אותה ספרה בקוד). חשבו את ההסתברויות הבאות: (בטאו את תשובותיכם באמצעות a).
- בקוד אין את הספרה 5.
 - בקוד מופיעה הספרה 3.
 - בקוד לא מופיעות ספרות אי זוגיות.
- (9) במשחק מזל יש למלא טופס בו n משבצות. כל משבצת מסומנת בסימן V או X. בכמה דרכים שונות ניתן למלא את טופס משחק המזל?

תשובות סופיות:

- (1) א. 0.36 ב. 0.900 ג. 0.70 ד. 0.90
- (2) א. 0.36 ב. i. $\frac{1}{36}$ ב. ii. $\frac{1}{9}$
- (3) א. 0.5 ב. 0.3024 ג. 0.0001 ד. 0.9999 ה. 0.6976 ו. 0.01
- (4) א. $\frac{1}{8^5}$ ב. $\frac{1}{8^4}$ ג. 0.205 ד. $\frac{1 \cdot 1 \cdot 7^3}{8^5}$
- (5) א. 0.3375 ב. 0.2730
- (6) א. $\frac{1}{216}$ ב. $\frac{5}{18}$ ג. $\frac{13}{18}$ ד. $\frac{215}{216}$
- (7) א. $\frac{23^5}{26^5}$ ב. $\frac{1}{26^4}$ ג. $1 - \frac{1}{26^4}$ ד. $\frac{1}{26^2}$
- (8) א. 0.9^a ב. $1 - 0.9^a$ ג. 0.5^a
- (9) 2^n

מבוא להסתברות

פרק 7 - קומבינטוריקה- תמורה - סידור עצמים בשורה

תוכן העניינים

1. כללי 25

קומבינטוריקה – תמורה – סידור עצמים בשורה:

רקע:

תמורה:

מספר האפשרויות לסדר n עצמים שונים בשורה: $n! = 1 \cdot 2 \cdot 3 \cdots (n-1) \cdot n$.

הערה: $0! = 1$.

דוגמאות (הפתרונות בהקלטה):

- בכמה דרכים שונות ניתן לסדר את האותיות: a, b, c, d ?
- בכמה דרכים שונות ניתן לסדר את האותיות: a, b, c, d , כך שהאותיות: a, b יהיו ברצף?
- בכמה דרכים שונות ניתן לסדר את האותיות: a, b, c, d , כך שהאותיות: a, b יופיעו בתור הרצף ba ?

שאלות:

- (1) חשבו : בכמה אופנים
 א. אפשר לסדר 4 ספרים שונים על מדף?
 ב. אפשר לסדר חמישה חיילים בטור?
- (2) סידרו באקראי 10 דיסקים שונים על מדף שמתוכם שניים בשפה העברית.
 א. מה ההסתברות שהדיסקים בעברית יהיו צמודים זה לזה?
 ב. מה ההסתברות שהדיסקים בעברית לא יהיו צמודים זה לזה?
 ג. מה ההסתברות ששני הדיסקים בעברית יהיו כל אחד בקצה השני של המדף?
- (3) בוחנים 5 בנים ו-4 בנות בכיתה ומדרגים אותם לפי הציון שלהם בבחינה. נניח שאין תלמידים בעלי אותו ציון.
 א. מהו מספר הדירוגים האפשריים?
 ב. מהו מספר הדירוגים האפשריים אם מדרגים בנים ובנות בנפרד?
- (4) מסדרים 10 ספרים שונים על מדף.
 א. בכמה אופנים ניתן לסדר את הספרים על המדף?
 ב. שני ספרים מתוך ה-10 הם ספרים בסטטיסטיקה.
 א. מה ההסתברות שאם נסדר את הספרים באקראי, הספרים בסטטיסטיקה יהיו צמודים זה לזה?
 ב. מה ההסתברות שהספרים בסטטיסטיקה לא יהיו צמודים זה לזה?
 ג. מה ההסתברות שהספרים בסטטיסטיקה יהיו בקצות המדף (כל ספר בקצה אחר)?
- (5) אדם יצר בנגן שלו פלייליסט (רשימת השמעה) של 12 שירים שונים. 4 בשפה העברית, 5 באנגלית ו-3 בצרפתית. האדם הריץ את הפלייליסט באקראי.
 א. מה ההסתברות שכל השירים באנגלית יופיעו כשירים הראשונים כמקשה אחת?
 ב. מה ההסתברות שכל השירים באנגלית יופיעו ברצף (לא חובה ראשונים)?
 ג. מה ההסתברות ששירים באותה השפה יופיעו ברצף (כלומר כל השירים באנגלית ברצף, כל השירים בעברית ברצף וכך גם השירים בצרפתית)?

- 6) 4 בנים ו-4 בנות התיישבו באקראי בשורת כיסאות 1-8 בקולנוע.
- א. מה ההסתברות שיוסי ומיכל לא ישבו זה לצד זה?
- ב. מה ההסתברות שהבנים יתיישבו במקומות האי-זוגיים?
- ג. מה ההסתברות שכל הבנים ישבו זה לצד זה?
- ד. מה ההסתברות שהבנים ישבו זה לצד זה והבנות תשבנה זו לצד זו?

תשובות סופיות:

- (1) א. 0.24 ב. 0.120
- (2) א. 0.2 ב. 0.8 ג. 0.022
- (3) א. 0.362880 ב. 0.2880
- (4) א. 0.3628800 ב. 0.2 ג. 0.8 ד. $\frac{1}{45}$
- (5) א. $\frac{1}{792}$ ב. $\frac{1}{99}$ ג. $\frac{1}{4620}$
- (6) א. 0.75 ב. 0.014 ג. $\frac{1}{14}$ ד. $\frac{1}{35}$

מבוא להסתברות

פרק 8 - קומבינטוריקה - תמורה עם עצמים זהים

תוכן העניינים

1. כללי 28

קומבינטוריקה – תמורה עם עצמים זהים:

רקע:

תמורה עם חזרות:

אם יש בין העצמים שיש לסדר עצמים זהים, יש לבטל את הסידור הפנימי שלהם על ידי חלוקה בסידורים הפנימיים שלהם.

מספר האופנים לסדר n עצמים בשורה, ש- n_1 מהם זהים מסוג 1, n_2 זהים מסוג 2

$$r\text{-ו-} n_r \text{ זהים מסוג } r : \frac{n!}{n_1! \cdot n_2! \cdot \dots \cdot n_r!}$$

דוגמה (תשובה בהקלטה):

כמה מילים ניתן ליצור מכל האותיות הבאות: W, W, T, T, K, K

שאלות:

(1) במשחק יש לצבוע שתי משבצות מתוך המשבצות הבאות:

--	--	--	--	--

בכמה דרכים שונות ניתן לבצע את הצביעה?

(2) בכמה אופנים שונים אפשר לסדר בשורה את האותיות: ב, ע, ב, ע, ג?

(3) בבית נורות מקום ל-6 נורות. בחרו שתי נורות אדומות, שתי נורות צהובות ושתי נורות כחולות. כמה דרכים שונות יש לסדר את הנורות?

(4) נרצה ליצור מספר מכל הספרות הבאות: 1, 2, 2, 2, 6. כמה מספרים כאלה אפשר ליצור?

(5) במשחק בול פגיעה יש 10 משבצות, אדם צובע 4 משבצות מתוך ה-10. המשתתף השני צריך לנחש אילו 4 משבצות נצבעו. מה ההסתברות שבניחוש אחד יהיה בול פגיעה?

(6) כמה אותות שונים, שכל אחד מורכב מ-10 דגלים שונים, ניתן ליצור, אם 4 דגלים הם לבנים, 3 כחולים, 2 אדומים ואחד שחור. דגלים שווי צבע זהים זה לזה לחלוטין.

תשובות סופיות:

(1) 10.

(2) 60.

(3) 90.

(4) 20.

(5) $\frac{1}{210}$.

(6) 12600.

מבוא להסתברות

פרק 9 - קומבינטוריקה - סידור עצמים במעגל

תוכן העניינים

1. סידור עצמים במעגל 30


קומבינטוריקה – סידור עצמים במעגל:

רקע:

מספר האפשרויות לסדר n עצמים שונים במעגל בו אין מקומות מסומנים הוא: $(n-1)!$.

דוגמה (פתרון בהקלטה):

דנה, רמה ושדה רוצות ליצור מעגל ריקוד. בכמה דרכים שונות הן יכולות להחזיק אחת לשנייה את הידיים, כדי ליצור את המעגל?



שאלות:

- (1) מעצב פנים יצר ללקחותיו מניפת צבעים המוצגת במעגל. במניפה 12 צבעים שונים מתוכם 3 בגווני אפור, 3 בגווני לבן, 3 בגווני ירוק ו-3 בגווני צהוב. כמה מניפות שונות ניתן ליצור כאשר:
- גווני האפור צמודים זה לזה.
 - צבעים באותו גוון צמודים זה לזה.



- (2) דני יוצר שרשרת חרוזים הבנויה מעשרה חרוזים בצבעים שונים. הוא משחיל את עשרת החרוזים באקראי. חשבו את ההסתברויות הבאות:
- הסידור יהיה בדיוק כמוראה בציר.
 - החרוז הלבן והכתום יהיו בסמוך זה לזה.

- (3) אבא הכין עוגת יומולדת עגולה. הוא סידר 7 נרות כמוראה בשרטוט. הנרות זהים ונבדלים זה בזה בצבע: 2 כחולים זהים, 2 אדומים זהים, 2 צהובים זהים ו-1 כתום. סידור הנרות נעשה באקראי. חשבו את ההסתברויות הבאות:



- הנרות הצהובים סמוכים זה לזה.
- נרות באותו צבע סמוכים זה לזה.

- (4) n בנים ו- n בנות הסתדרו במעגל באקראי.



- מה הסיכוי שכל הבנים יסתדרו זה לצד זה בלי להתפצל?
- מה הסיכוי שכל הבנים יסתדרו זה לצד זה בלי להתפצל וגם כל הבנות יסתדרו זו לצד זו בלי להתפצל?
- מה הסיכוי שהסידור יהיה שמימין ומשמאל לכל בן תהיה בת?

תשובות סופיות:

$$(1) \quad \text{א. } .2177280 \quad \text{ב. } .7776$$

$$(2) \quad \text{א. } \frac{1}{9!} \quad \text{ב. } \frac{2}{9}$$

$$(3) \quad \text{א. } \frac{1}{3} \quad \text{ב. } \frac{1}{15}$$

$$(4) \quad \text{א. } \frac{(n!)^2}{(2n-1)!} \quad \text{ב. } \frac{(n!)^2}{(2n-1)!} \quad \text{ג. } \frac{(n-1)!(n!)}{(2n-1)!}$$

מבוא להסתברות

פרק 10 - קומבינטוריקה - דגימה סידורית ללא החזרה ועם החזרה

תוכן העניינים

1. כללי 33

קומבינטוריקה – דגימה סידורית ללא החזרה ועם החזרה:

רקע:

מדגם סידור בדגימה עם החזרה:

מספר האפשרויות בדגימת k עצמים מתוך n עצמים שונים כאשר הדגימה היא עם החזרה והמדגם סדור הוא: n^k .

דוגמה:

בוחרים שלושה תלמידים מתוך עשרה לייצג ועד בו תפקידים שונים, תלמיד יכול למלא יותר מתפקיד אחד.

כמה ועדים שונים ניתן להרכיב? $10^3 = 1,000$, $k = 3$, $n = 10$.

מדגם סידור ללא החזרה:

מספר האפשרויות בדגימת k עצמים שונים מתוך n עצמים שונים ($n \geq k$) כאשר המדגם סדור ואין החזרה של עצמים נדגמים הינו:

$$\cdot (n)_k = n(n-1)(n-2)\dots(n-(k-1)) = \frac{n!}{(n-k)!}$$

דוגמה:

שלושה תלמידים נבחרים מתוך 10 לייצג וועד בו תפקידים שונים.

תלמיד לא יכול למלא יותר מתפקיד אחד: $\frac{10!}{7!} = 10 \cdot 9 \cdot 8 = 720$.

שאלות:

- (1) במפלגה 20 חברי כנסת, מעוניינים לבחור שלושה חברי כנסת לשלושה תפקידים שונים.
- א. חבר כנסת יכול למלא יותר מתפקיד אחד.
כמה קומבינציות ישנן לחלוקת התפקידים?
- ב. חבר כנסת לא יכול למלא יותר מתפקיד אחד.
כמה קומבינציות יש לחלוקת התפקידים?
- (2) במשחק מזל יש 4 משבצות ממוספרות מ-A-D (A עד D). בכל משבצת יש למלא סיפרה (0-9). הזוכה הוא זה שניחש נכונה את כל הספרות בכל המשבצות בהתאמה.
- א. מה ההסתברות לזכות במשחק?
ב. מה ההסתברות שבאף משבצת לא תהיה את הספרה 3 במספר הזוכה?
ג. מה ההסתברות שהתוצאה 4 תופיע לפחות פעם אחת במספר הזוכה?
- (3) קבוצה מונה 22 אנשים, מה ההסתברות שלפחות לשניים מהם יהיה יום הולדת באותו התאריך?
- (4) שלושה אנשים קבעו להיפגש במלון הילטון בסינגפור. הבעיה היא שבסינגפור ישנם 5 מלונות הילטון.
- א. מה ההסתברות שכל השלושה ייפגשו?
ב. מה ההסתברות שכל אחד יגיע לבית מלון אחר?
- (5) בכיתה 40 תלמידים. מעוניינים לבחור חמישה מהם לוועד כיתה. בכמה דרכים ניתן להרכיב את הוועד אם:
- א. בוועד 5 תפקידים שונים ותלמיד יכול למלא יותר מתפקיד אחד.
ב. בוועד 5 תפקידים שונים ותלמיד לא יכול למלא יותר מתפקיד אחד.

תשובות סופיות:

- (1) א. 8000 ב. 6840
- (2) א. 0.0001 ב. 0.6561 ג. 0.3439
- (3) 0.476
- (4) א. 0.04 ב. 0.48
- (5) א. 40^5 ב. 78,960,960

מבוא להסתברות

פרק 11 - קומבינטוריקה - דגימה ללא סדר וללא החזרה

תוכן העניינים

1. כללי 35

קומבינטוריקה – דגימה ללא סדר וללא החזרה:

רקע:

מדגם לא סדור בדגימה ללא החזרה:

מספר האפשרויות לדגום k עצמים שונים מתוך n עצמים שונים כאשר אין

משמעות לסדר העצמים הנדגמים ואין החזרה: $\frac{n!}{(n-k)!k!} = \binom{n}{k} = \frac{(n)_k}{k!}$

דוגמה:

מתוך 10 תלמידים יש לבחור שלושה נציגים לוועד ללא תפקידים מוגדרים:

$$\binom{10}{3} = \frac{10!}{7!3!} = 120$$

הערות:

$$\binom{n}{k} = \binom{n}{n-k} \quad (1)$$

$$\binom{n}{n-1} = \binom{n}{1} = n \quad (2)$$

$$\binom{n}{n} = \binom{n}{0} = 1 \quad (3)$$

שאלות:

- (1) בכיתה 15 בנות ו-10 בנים. יש לבחור 5 תלמידים שונים מהכיתה לנציגות הכיתה. בכמה דרכים אפשר להרכיב את הנציגות, אם:
- אין שום הגבלה לבחירה.
 - מעוניינים ש-3 בנות ו-2 בנים ירכיבו את המשלחת.
 - לא יהיו בנים במשלחת.
- (2) סטודנט מעוניין לבחור 5 קורסי בחירה בסמסטר זה. לפניו רשימה של 10 קורסים לבחירה: 5 במדעי הרוח, 3 במדעי החברה, 2 במתמטיקה.
- כמה בחירות שונות הוא יכול ליצור לעצמו?
 - כמה בחירות יש לו בהן 3 קורסים הם ממדעי הרוח?
 - כמה בחירות יש לו אם 2 מהן לא ממדעי הרוח?
 - כמה בחירות יש לו אם 2 ממדעי הרוח, 2 ממדעי החברה ו-1 ממתמטיקה?
- (3) בכיתה 30 תלמידים מתוכם 12 תלמידים ו-18 תלמידות. יש לבחור למשלחת 4 תלמידים מהכיתה. התלמידים נבחרים באקראי.
- מה ההסתברות שהמשלחת תורכב רק מבנות?
 - מה ההסתברות שבמשלחת תהיה רק בת אחת?
 - מה ההסתברות שבמשלחת תהיה לפחות בת אחת?
- (4) במשחק הלוטו יש לבחור 5 מספרים מתוך 45. המספרים הם 1-45.
- מה ההסתברות שבמשחק הזוכה כל המספרים הם זוגיים?
 - מה ההסתברות שבמספר הזוכה יש לכל היותר מספר זוגי אחד?
 - מה ההסתברות שבמספר הזוכה לפחות פעם אחת יש מספר זוגי?
 - מה ההסתברות שבמספר הזוכה כל המספרים גדולים מ-30?
- (5) בחפיסת קלפים ישנם 52 קלפים: 13 בצבע שחור בצורת עלה, 13 בצבע אדום בצורת לב, 13 בצבע אדום בצורת יהלום ו-13 בצבע שחור בצורת תלתן. מכל צורה (מתוך ה-4) יש 9 קלפים שמספרם 10-2, שאר הקלפים הם; נסיך, מלכה, מלך ואס (בעצם מדובר בקופסת קלפים רגילה ללא ג'וקר). שני אנשים משחקים פוקר. כל אחד מקבל באקראי 5 קלפים (ללא החזרה).
- מה ההסתברות שעודד יקבל את כל המלכים וערן את כל המלכות?
 - מה ההסתברות שאחד השחקנים יקבל את הקלף אס-לב?
 - מה ההסתברות שערן יקבל קלפים שחורים בלבד ועודד יקבל שני קלפים שחורים בדיוק?
 - מה ההסתברות שערן יקבל לפחות 3 קלפים שהם מספר (אס אינו מספר)?

- 6) במכללה 4 מסלולי לימוד. בכל מסלול לימוד 5 מזכירות. יש ליצור וועד של 5 מזכירות מתוך כלל המזכירות במכללה. יוצרים וועד באופן אקראי. חשבו את ההסתברויות הבאות:
- א. כל המזכירות בוועד יהיו ממסלול "מדעי ההתנהגות".
 ב. כל המזכירות בוועד יהיו מאותו המסלול.
 ג. מכל מסלול תבחר לפחות מזכירה אחת.

7) הוכיחו כי:
$$\binom{n}{k} + \binom{n}{k+1} = \binom{n+1}{k+1}$$

- 8) $2n$ בנים ו- $2n$ בנות מתחלקים ל-2 קבוצות.
- א. בכמה דרכים שונות ניתן לבצע את החלוקה אם שתי הקבוצות צריכות להיות שוות בגודלן ויש בכל קבוצה מספר שווה של בנים ובנות?
 ב. בכמה דרכים ניתן לבצע את החלוקה אם יש מספר שווה של בנים ובנות בכל קבוצה אבל הקבוצות לא בהכרח בגודל שווה.

תשובות סופיות:

- 1) א. 53130 ב. 20475 ג. 3003
- 2) א. 252 ב. 100 ג. 100 ד. 60
- 3) א. 0.1117 ב. 0.1445 ג. 0.9819
- 4) א. 0.02 ב. 0.187 ג. 0.972 ד. 0.00246
- 5) א. 0 ב. 0.1923 ג. 0.009 ד. 0.837
- 6) א. $6.45 \cdot 10^{-5}$ ב. $2.58 \cdot 10^{-4}$ ג. 0.3225
- 7) שאלת הוכחה.

8) א. $\binom{2n}{n}^2$ ב. $\sum_{i=1}^n \binom{2n}{i}^2$

מבוא להסתברות

פרק 12 - הסתברות מותנית-במרחב מדגם אחיד

תוכן העניינים

1. כללי 38

הסתברות מותנית – במרחב מדגם אחיד:

רקע:

לעיתים אנו נדרשים לחשב הסתברות למאורע כלשהו כאשר ברשותנו אינפורמציה לגבי מאורע אחר. הסתברות מותנית הינה סיכוי להתרחשות מאורע כלשהו כאשר ידוע שמאורע אחר התרחש / לא התרחש.

ההסתברות של A בהינתן ש- B כבר קרה: $P(A|B)$.

$$P(A|B) = \frac{|A \cap B|}{|B|} \quad \text{כשמרחב המדגם אחיד:}$$

דוגמה (פתרון בהקלטה):

נטיל קובייה.

נגדיר:

A - התוצאה זוגית.

B - התוצאה גדולה מ-3.

נרצה לחשב את: $P(A|B)$.

שאלות:

- (1) נבחרה ספרה זוגית באקראי. מה הסיכוי שהספרה גדולה מ-6?
- (2) יוסי הטיל קובייה.
מה הסיכוי שקיבל את התוצאה 4, אם ידוע שהתוצאה שהתקבלה זוגית?
- (3) הוטלו צמד קוביות. נגדיר:
 A - סכום התוצאות בשתי ההטלות הינו 7.
 B - מכפלת התוצאות 12.
 חשבו את $P(A|B)$.
- (4) מטבע הוטל פעמיים.
ידוע שהתקבל לכל היותר ראש אחד, מה הסיכוי שהתקבלו שני ראשים?
- (5) זוג קוביות הוטלו והתקבל שהתוצאות זהות.
מה הסיכוי שלפחות אחת התוצאות 5?
- (6) זוג קוביות הוטלו והתקבל לפחות פעם אחת 4.
מה הסיכוי שאחת התוצאות 5?
- (7) נבחרה משפחה בת שני ילדים, שמהם אחד הוא בן.
מה ההסתברות שבמשפחה שני בנים בקרב הילדים?
- (8) נבחרה משפחה בת שלושה ילדים, ונתון שהילד האמצעי בן.
מה הסיכוי שיש בנות בקרב הילדים?
- (9) בכיתה 6 בנים ו-7 בנות. נבחרו 4 ילדים מהכיתה.
אם ידוע שנבחרו 2 בנים ו-2 בנות, מה הסיכוי שאלעד לא נבחר?
- (10) חמישה חברים יצאו לבית קולנוע והתיישבו זה לצד זה באקראי,
בכיסאות מספר 5 עד 9. ידוע שערך ודין התיישבו זה ליד זה.
מה ההסתברות שהם יושבים בכיסאות מספר 6 ו-7?

תשובות סופיות:

(1) 0.2

(2) $\frac{1}{3}$

(3) 0.5

(4) 0

(5) $\frac{1}{6}$

(6) $\frac{2}{11}$

(7) $\frac{1}{3}$

(8) $\frac{3}{4}$

(9) $\frac{2}{3}$

(10) $\frac{1}{4}$

מבוא להסתברות

פרק 13 - הסתברות מותנית - מרחב לא אחיד

תוכן העניינים

1. כללי 41

הסתברות מותנית – מרחב לא אחיד:

רקע:

הסיכוי שמאורע A יתרחש, בהינתן שמאורע B כבר קרה: $P(A|B) = \frac{P(A \cap B)}{P(B)}$.

במונה: הסיכוי לחיתוך של שני המאורעות, זה הנשאל וזה הנתון שהתרחש.
 במכנה: הסיכוי למאורע נתון שהתרחש.

דוגמה (פתרון בהקלטה):

נבחרו משפחות שיש להם שתי מכוניות. ל-30% מהמשפחות הללו המכונית הישנה יותר היא מתוצרת אירופה ואצל 60% מהמשפחות הללו המכונית החדשה יותר מתוצרת אירופה. כמו כן, בקרב 15% מהמשפחות הללו שתי המכוניות הן מתוצרת אירופאית. אם המכונית הישנה של המשפחה היא אירופאית, מה ההסתברות שגם החדשה אירופאית?

שאלות:

- (1) תלמיד ניגש בסמסטר לשני מבחנים: מבחן בכלכלה ומבחן בסטטיסטיקה. נגדיר את המאורעות הבאים:
 A - לעבור את המבחן בסטטיסטיקה.
 B - לעבור את המבחן בכלכלה.
 כמו כן נתון שהסיכוי לעבור את המבחן בכלכלה הנו 0.8, הסיכוי לעבור את המבחן בסטטיסטיקה הנו 0.9 והסיכוי לעבור את שני המבחנים הנו 0.75.
 חשבו את הסיכויים למאורעות הבאים:
- התלמיד עבר בסטטיסטיקה, מה ההסתברות שהוא עבר בכלכלה?
 - התלמיד עבר בכלכלה, מה ההסתברות שהוא עבר בסטטיסטיקה?
 - התלמיד עבר בכלכלה, מה ההסתברות שהוא נכשל בסטטיסטיקה?
 - התלמיד נכשל בסטטיסטיקה, מה ההסתברות שהוא נכשל בכלכלה?
 - התלמיד עבר לפחות מבחן אחד, מה ההסתברות שהוא יעבור את שניהם?
- (2) במדינה שתי חברות טלפון סלולארי: "סופט" ו"בל". 30% מהתושבים הבוגרים רשומים אצל חברת "בל", 60% מהתושבים הבוגרים רשומים אצל חברת "סופט" ול-15% מהתושבים הבוגרים אין טלפון סלולארי כלל.
- איזה אחוז מהתושבים הבוגרים רשומים אצל שתי החברות?
 - נבחר אדם שרשום אצל חברת "סופט", מה ההסתברות שהוא רשום גם אצל חברת "בל"?
 - אם אדם לא רשום אצל חברת "בל", מה ההסתברות שהוא כן רשום בחברת "סופט"?
 - אם אדם רשום אצל חברה אחת בלבד, מה ההסתברות שהוא רשום בחברת "סופט"?
- (3) במכללה שני חניונים: חניון קטן וחניון גדול. בשעה 08:00 יש סיכוי של 60% שבחניון הגדול יש מקום, סיכוי של 30% שבחניון הקטן יש מקום וסיכוי של 20% שבשני החניונים יש מקום.
- מה ההסתברות שיש מקום בשעה 08:00 רק בחניון הגדול של המכללה?
 - ידוע שבחניון הקטן יש מקום בשעה 08:00, מה הסיכוי שבחניון הגדול יש מקום?
 - אם בשעה 08:00 בחניון הגדול אין מקום, מה ההסתברות שבחניון הקטן יהיה מקום?
 - נתון שלפחות באחד מהחניונים יש מקום בשעה 08:00, מה ההסתברות שבחניון הגדול יש מקום?

4) נלקחו 200 שכירים ו-100 עצמאים. מתוך השכירים 20 הם אקדמאיים, ומתוך העצמאיים 30 הם אקדמאיים.

- א. בנו טבלת שכיחות משותפת לנתונים.
- ב. נבחר אדם אקראי מה ההסתברות שהוא שכיר?
- ג. מה ההסתברות שהוא שכיר ולא אקדמאי?
- ד. מה ההסתברות שהוא שכיר או אקדמאי?
- ה. אם האדם שנבחר הוא עצמאי מהי ההסתברות שהוא אקדמאי?
- ו. אם האדם שנבחר הוא לא אקדמאי, מה ההסתברות שהוא שכיר?

5) חברה מסוימת פרסמה את הנתונים הבאים לגבי האזרחים מעל גיל 21 :
 40% מהאנשים מחזיקים כרטיס "ויזה", 52% מחזיקים כרטיס "ישראלכרט",
 20% מחזיקים כרטיס "אמריקן אקספרס", 15% מחזיקים ויזה וגם ישראלכרט,
 8% מחזיקים ישראלכרט וגם אמריקן אקספרס ו-7% מחזיקים כרטיס ויזה וגם אמריקן אקספרס. כמו כן, 5% מחזיקים בשלושת הכרטיסים הנ"ל.

- א. אם לאדם יש ויזה, מה הסיכוי שאין לו ישראלכרט?
- ב. אם לאדם שני כרטיסי אשראי, מה הסיכוי שאין לו ישראלכרט?
- ג. אם לאדם לפחות כרטיס אחד, מה הסיכוי שאין לו ישראלכרט?

תשובות סופיות:

(1) א. 0.833 ב. 0.9375 ג. 0.0625 ד. 0.5 ה. 0.789

(2) א. 5% ב. 0.0833 ג. 0.786 ד. 0.6875

(3) א. 0.4 ב. $\frac{2}{3}$ ג. 0.25 ד. $\frac{6}{7}$

(4) א. להלן טבלה: ב. $\frac{2}{3}$ ג. 0.6 ד. $\frac{23}{30}$

סה"כ	לא אקדמאי	אקדמאי	
200	180	20	שכיר
100	70	30	עצמאי
300	250	50	סה"כ

ה. 0.3 ו. 0.72

(5) א. 0.625 ב. 0.133 ג. 0.402

מבוא להסתברות

פרק 14 - דיאגרמת עצים - נוסחת בייס ונוסחת ההסתברות השלמה

תוכן העניינים

1. כללי 45

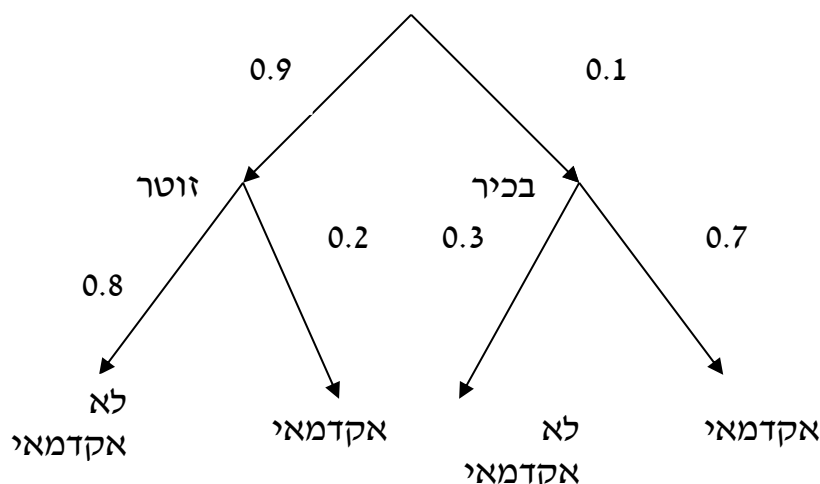
דיאגרמת עצים – נוסחת בייס ונוסחת ההסתברות השלמה:

רקע:

נשתמש בשיטה זו כאשר יש תרגיל שבו התרחשות המאורעות היא בשלבים, כך שכל תוצאה של כל שלב תלויה בשלב הקודם, פרט לשלב הראשון:

דוגמה:

בחברה מסוימת 10% מוגדרים בכירים והיתר מוגדרים זוטרים. מבין הבכירים 20% הם אקדמאים ומבין הזוטרים 80% הם אקדמאים. נשרטט עץ שיתאר את הנתונים, השלב הראשון של העץ אינו מותנה בכלום ואילו השלב השני מותנה בשלב הראשון.



כדי לקבל את הסיכוי לענף מסוים נכפיל את כל ההסתברויות על אותו ענף. נבחר אדם באקראי מאותה חברה.

(1) מה הסיכוי שהוא בכיר אקדמאי ? $0.1 \cdot 0.7 = 0.07$

(2) מה הסיכוי שהוא זוטר לא אקדמאי ? $0.9 \cdot 0.8 = 0.72$

כדי לקבל את הסיכוי לכמה ענפים נחבר את הסיכויים של כל ענף (רק אחרי שבתוך הענף הכפלנו את ההסתברויות).

(3) מה הסיכוי שהוא אקדמאי ? $0.1 \cdot 0.7 + 0.9 \cdot 0.2 = 0.25$

(4) נבחר אקדמאי מה ההסתברות שהוא עובד זוטר? מדובר כאן על שאלה בהסתברות מותנה ולכן נשתמש בעיקרון של הסתברות

$$P(zutar | academay) = \frac{0.9 \cdot 0.2}{0.25} = \frac{0.18}{0.25} = 0.72$$

מותנה: 0.72

נוסחת ההסתברות השלמה:

בהינתן B , מאורע כלשהו, וחלוקה של מרחב המדגם Ω ל- A_1, \dots, A_n כך ש- $\bigcup_i A_i = \Omega$,

$$. P(B) = \sum_{i=1}^n P(A_i) \cdot P\left(\frac{B}{A_i}\right) \text{ אזי:}$$

נוסחת בייס:

$$. P\left(\frac{A_j}{B}\right) = \frac{P(A_j)P\left(\frac{B}{A_j}\right)}{\sum_{i=1}^n P(A_i) \cdot P\left(\frac{B}{A_i}\right)}$$

שאלות:

- (1) בשקית סוכריות 4 סוכריות תות ו-3 לימון. מוציאים באקראי סוכריה. אם היא בטעם תות אוכלים אותה ומוציאים סוכריה נוספת, ואם היא בטעם לימון מחזירים אותה לשקית ומוציאים סוכריה נוספת.
- א. מה ההסתברות שהסוכריה הראשונה שהוצאה בטעם תות והשנייה בטעם לימון?
- ב. מה ההסתברות שהסוכריה השנייה בטעם לימון?
- (2) באוכלוסייה מסוימת 30% הם ילדים, 50% בוגרים והיתר קשישים. לפי נתוני משרד הבריאות הסיכוי שילד יחלה בשפעת במשך החורף הוא 80%, הסיכוי שמבוגר יחלה בשפעת במשך החורף הוא 40% והסיכוי שקשיש יחלה בשפעת במשך החורף הוא 70%.
- א. איזה אחוז מהאוכלוסייה הינו קשישים שלא יחלו בשפעת במשך החורף?
- ב. מה אחוז האנשים שיחלו בשפעת במשך החורף?
- ג. נבחר אדם שחלה במשך החורף בשפעת, מה ההסתברות שהוא קשיש?
- ד. נבחר ילד, מה ההסתברות שהוא לא יחלה בשפעת במשך החורף?
- (3) בכד א' 5 כדורים כחולים ו-5 כדורים אדומים. בכד ב' 6 כדורים כחולים ו-4 כדורים אדומים. בוחרים באקראי כד, מוציאים ממנו כדור ומבלי להחזירו מוציאים כדור נוסף.
- א. מה ההסתברות ששני הכדורים שיוצאו יהיו בצבעים שונים?
- ב. אם הכדורים שהוצאו הם בצבעים שונים, מה ההסתברות שהכדור השני שהוצא יהיה בצבע אדום?
- (4) חברת סלולר מסווגת את לקוחותיה לפי 3 קבוצות גיל: נוער, בוגרים ופנסיונרים. נתון כי: 10% מהלקוחות בני נוער, 70% מהלקוחות בוגרים והיתר פנסיונרים. מתוך בני הנוער 90% מחזיקים בסמארט-פון, מתוך האוכלוסייה הבוגרת ל-70% יש סמארט-פון ומתוך אוכלוסיית הפנסיונרים 30% מחזיקים בסמארט-פון.
- א. איזה אחוז מלקוחות החברה הם בני נוער עם סמארט-פון?
- ב. נבחר לקוח אקראי ונתון שיש לו סמארט-פון. מה ההסתברות שהוא פנסיונר?
- ג. אם ללקוח אין סמארט-פון, מה ההסתברות שהוא לא בן נוער?

- (5) כדי להתקבל למקום עבודה יש לעבור שלושה מבחנים. המבחנים הם בשלבים, כלומר לאחר כישלון במבחן מסוים אין אפשרות לגשת למבחן הבא אחריו. 70% מהמועמדים עוברים את המבחן הראשון. מתוכם, 50% עוברים את המבחן השני. מבין אלה שעוברים את המבחן השני 40% עוברים את המבחן השלישי.
- א. מה ההסתברות להתקבל לעבודה?
 ב. מועמד לא התקבל לעבודה. מה ההסתברות שהוא נכשל במבחן הראשון?
 ג. מועמד לא התקבל לעבודה. מה ההסתברות שהוא עבר את המבחן השני?
- (6) משרד הבריאות פרסם את הנתונים הבאים:
- מתוך אוכלוסיית הילדים והנוער 80% חולים בשפעת בזמן החורף.
 מתוך אוכלוסיית המבוגרים (עד גיל 65) 60% חולים בשפעת בזמן החורף.
 30% מהתושבים הם ילדים ונוער. 50% הם מבוגרים. היתר קשישים.
 כמו כן נתון ש 68% מהאוכלוסייה תחלה בשפעת בחורף.
- א. מה אחוז החולים בשפעת בקרב האוכלוסייה הקשישה?
 ב. נבחר אדם שלא חלה בשפעת, מה ההסתברות שהוא לא קשיש?
- (7) רדאר שנמצא על החוף צריך לקלוט אנייה הנמצאת ב-1 מ-4 האזורים: A, B, C, D. אם האנייה נמצאת באזור A הרדאר מזהה אותה בסיכוי 0.8, סיכוי זה פוחת ב-0.1 ככל שהאנייה מתקדמת באזור. כמו כן נתון שבהסתברות חצי האנייה נמצאת באזור D, בהסתברות 0.3 באזור C, באזור B היא נמצאת בסיכוי 0.2, אחרת היא נמצאת באזור A.
- א. מה הסיכוי שהאנייה תתגלה ע"י הרדאר?
 ב. אם האנייה התגלתה ע"י הרדאר, מה ההסתברות שהיא נמצאת באזור C?
 ג. אם האנייה התגלתה ע"י הרדאר, מה הסיכוי שהיא לא נמצאת באזור B?
- (8) סימפטום X מופיע בהסתברות של 0.4 במחלה A, בהסתברות של 0.6 במחלה B ובהסתברות של 0.5 במחלה C. סימפטום X מופיע אך ורק במחלות הללו, אדם לא יכול לחלות ביותר ממחלה אחת מבין המחלות הללו. לקליניקה מגיעים אנשים כדלקמן: 8% חולים במחלה A, 10% במחלה B, 2% במחלה C והיתר בריאים. כמו כן נתון שבמחלה A, סימפטום X מתגלה בסיכוי של 80%, ובמחלות B, C הסימפטום מתגלה בסיכוי של 90% בכל מחלה.
- א. מה ההסתברות שאדם הגיע לקליניקה וגילו אצלו את סימפטום X?
 ב. אם התגלה אצל אדם סימפטום X, מה ההסתברות שהוא חולה במחלה A?
 ג. אם לאדם יש את סימפטום X, מה ההסתברות שהוא חולה במחלה A?
 ד. אם לא גילו אצל אדם את סימפטום X, מה ההסתברות שהוא בריא?

- (9) סטודנט ניגש למבחן אמריקאי. הסיכוי שהוא יודע תשובה לשאלה מסוימת הוא P , ואם הוא לא יודע את התשובה הוא מנחש. בכל מקרה הוא עונה על השאלה. נתון שלשאלה יש k תשובות אפשריות. אם הסטודנט ענה נכון על השאלה, מה הסיכוי שהוא ידע אותה?
- (10) אדם משחק נגד שני מתמודדים, רונית ודולב. האדם צריך לשחק שלושה משחקים ויש לו לבחור איזה סדר משחקים עדיף לו:
- דולב, רונית, דולב.
 - רונית, דולב, רונית.
- בכל משחק מישהו חייב לנצח(אין תיקו). האדם ינצח בטורניר רק אם ינצח בשני משחקים ברציפות. נתון שדולב שחקן טוב יותר מאשר רונית. איזו אפשרות עדיפה יותר על האדם כדי לנצח בטורניר?

תשובות סופיות:

- (1) א. $\frac{2}{7}$ ב. $\frac{23}{49}$
- (2) א. 6% ב. 58% ג. 0.241 ד. 0.2
- (3) א. 0.544 ב. 0.5
- (4) א. 9% ב. 0.09375 ג. 0.9722
- (5) א. 0.14 ב. 0.3488 ג. 0.2442
- (6) א. 70% ב. 0.8125
- (7) א. 0.57 ב. 0.3158 ג. 0.7543
- (8) א. 0.0886 ב. 0.2889 ג. 0.3137 ד. 0.8778
- (9) $\frac{kp}{1+p(k-1)}$
- (10) א'

מבוא להסתברות

פרק 15 - תלות ואי תלות בין מאורעות

תוכן העניינים

1. אי תלות בין מאורעות (מורחב) 50

תלות ואי תלות בין מאורעות:

רקע:

אם מתקיים ש: $P(B|A) = P(B)$, נגיד שמאורע B בלתי תלוי ב- A .

הדבר גורר גם ההפך: $P(A|B) = P(A)$, כלומר, גם A אינו תלוי ב- B .

כשהמאורעות בלתי תלויים מתקיים ש: $P(A \cap B) = P(A) \cdot P(B)$.

הוכחה לכך: $P(A/B) = P(A) = \frac{P(A \cap B)}{P(B)} \Rightarrow P(A \cap B) = P(A) \cdot P(B)$.

נשתמש בנוסחאות של מאורעות בלתי תלויים רק אם נאמר במפורש שהמאורעות בלתי תלויים בתרגיל או שמהקשר אפשר להבין ללא צל של ספק שהמאורעות בלתי תלויים.

למשל,

חוקר מבצע שני ניסויים בלתי תלויים הסיכוי להצליח בניסוי הראשון הנו 0.7 והסיכוי להצליח בניסוי השני הוא 0.4.

א. מה הסיכוי להצליח בשני הניסויים יחדו?

כיוון שהמאורעות הללו בלתי תלויים:

$$P(A \cap B) = P(A) \cdot P(B) = 0.7 \cdot 0.4 = 0.28$$

ב. מה הסיכוי להיכשל בשני הניסויים?

באופן דומה:

$$P(\bar{A} \cap \bar{B}) = P(\bar{A}) \cdot P(\bar{B}) = (1 - 0.7)(1 - 0.4) = 0.18$$

הרחבה: אי תלות בין n מאורעות:

n מאורעות A_1, \dots, A_n הם בלתי תלויים אם ורק אם: $P\left(\bigcap_{i=1}^n A_i\right) = \prod_{i=1}^n P(A_i)$.

שאלות:

- (1) נתון: $P(A) = 0.2$, $P(B) = 0.5$, $P(A \cup B) = 0.6$.
האם המאורעות הללו בלתי תלויים?
- (2) תלמיד ניגש לשני מבחנים שהצלחתם לא תלויה זו בזו. הסיכוי שלו להצליח במבחן הראשון הוא 0.7 והשני 0.4.
א. מה הסיכוי להצליח בשני המבחנים יחדו?
ב. מה הסיכוי שניכשל בשני המבחנים?
- (3) במדינה מסוימת יש 8% אבטלה, נבחרו באקראי שני אנשים מהמדינה.
א. מה ההסתברות ששניהם מובטלים?
ב. מה ההסתברות שלפחות אחד מהם מובטל?
- (4) מוצר צריך לעבור בהצלחה ארבע בדיקות בלתי תלויות לפני שיווקו, אחרת הוא נפסל ולא יוצא לשוק. הסיכוי לעבור בהצלחה כל אחת מהבדיקות הוא 0.8. בכל מקרה מבוצעות כל 4 הבדיקות.
א. מה הסיכוי שהמוצר יפסל?
ב. מה ההסתברות שהמוצר יעבור בהצלחה לפחות בדיקה אחת?
- (5) במדינה מסוימת יש 8% אבטלה, נבחרו באקראי חמישה אנשים מהמדינה.
א. מה ההסתברות שכולם מובטלים במדגם?
ב. מה ההסתברות שלפחות אחד מהם מובטל?
- (6) עבור שני מאורעות A ו- B המוגדרים על אותו מרחב מדגם נתון ש:
 $P(A|B) = 0.6$, $P(A \cap \bar{B}) = 0.3$, $P(A \cup B) = 0.9$.
האם A ו- B מאורעות בלתי תלויים?
- (7) הוכיח שאם: $P(A/B) = P(B/A)$, אז: $P(A) = P(B)$.

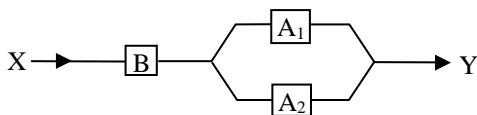
- 8 קבעו אילו מהטענות הבאות נכונות. נמק! א. אם: $P(A \cup B) = P(A) \cdot P(B)$, אזי המאורעות בלתי תלויים.
 ב. מאורע A כלול במאורע B : $0 < P(B) < 1$, $P(A) > 0$, לכן: $P(A/B) < P(A)$.
 ג. A ו- B מאורעות זרים שסיכוייהם חיוביים לכן הם מאורעות תלויים.
 ד. A ו- B מאורעות תלויים שסיכוייהם חיוביים לכן A ו- B מאורעות זרים.
 ה. $\bar{P}(\bar{A} \cap \bar{B}) = 1 - P(A) - P(B)$ לכן A ו- B מאורעות זרים.

- 9 זוג מעוניין להביא ילד לעולם, בבדיקה גנטית שהם עשו לאב התגלה שהאב אינו נשא של מחלה Q . מערכים את הסיכוי של האם להיות נשאית למחלה Q להיות 0.2. אם האם נשאית היא תלד בכל פעם ילד חולה בסיכוי 0.5 באופן בלתי תלוי בין הלידות. האם ילדה שני ילדים. האם המאורעות "הילד הראשון בריא" ו-"הילד השני בריא" הם מאורעות בלתי תלויים?

- 10 מטילים פעמיים מטבע עם הסתברות p לעץ בכל הטלה, $0 < p < 1$.
 A – יצא עץ בהטלה ראשונה.
 B – יצאו תוצאות שונות.
 עבור איזה ערכים של p המאורעות A ו- B בלתי תלויים?

- 11 הוכח אם A ו- B בלתי תלויים, אזי \bar{A} , \bar{B} בלתי תלויים.

- 12 נתונה מערכת חשמלית שבשרטוט, כל מתג יכול להיות פתוח או סגור בהסתברויות שונות, אך באופן בלתי תלוי זה בזה. להלן ההסתברות של כל מתג להיות סגור:
 $P(A_1) = 0.7$, $P(A_2) = 0.8$, $P(B) = 0.9$.



- א. מה ההסתברות שיעבור זרם במערכת החשמלית?
 ב. אם לא עובר זרם במערכת, מה הסיכוי שמתג B סגור?

- 13 מטילים שתי קוביות הוגנות. נגדיר שלושה מאורעות:
 A – תוצאה של קובייה ראשונה זוגית.
 B – תוצאה של קובייה שניה אי זוגית.
 C – סכום התוצאות של שתי הקוביות זוגי.
 האם המאורעות בלתי-תלויים?

14) ענה על הסעיפים הבאים :

א. המאורעות A ו- B הם מאורעות זרים של ניסוי כלשהו. חוזרים על אותו ניסוי שוב באופן בלתי תלוי זה בזה. הוכיחו שהסיכוי שמאורע A יתרחש בניסוי לפני שמאורע B יתרחש

$$\frac{P(A)}{P(A)+P(B)}$$

בניסוי הוא :

ב. מטילים קובייה הוגנת פעם אחרי פעם, מה הסיכוי שתתקבל תוצאה זוגית עוד לפני שתתקבל התוצאה 3?

ג. מטילים קובייה הוגנת פעם אחרי פעם, מה הסיכוי שתתקבל תוצאה זוגית עוד לפני שתתקבל תוצאה גדולה מ-4?

תשובות סופיות:

- 1) כן.
- 2) א. 0.28 ב. 0.18
- 3) א. 0.0064 ב. 0.1536
- 4) א. 0.5904 ב. 0.9984
- 5) א. 0.08^5 ב. 0.3409
- 6) לא, הם תלויים.
- 7) שאלת הוכחה.
- 8) א. לא נכון. ב. לא נכון. ג. נכון. ד. לא נכון. ה. נכון.
- 9) תלויים.
- 10) 0.5
- 11) שאלת הוכחה.
- 12) א. 0.846 ב. 0.3506
- 13) תלויים.
- 14) א. שאלת הוכחה. ב. $\frac{3}{4}$ ג. $\frac{1}{2}$

מבוא להסתברות

פרק 16 - שאלות מסכמות בהסתברות

תוכן העניינים

54 1. כללי

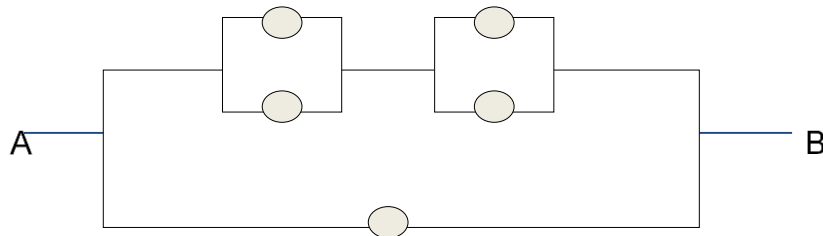
שאלות מסכמות בהסתברות:

שאלות:

- (1) נלקחו משפחות שיש להם שתי מכוניות. ל-30% מהמשפחות הללו המכונית הישנה יותר היא מתוצרת אירופה ואצל 60% מהמשפחות הללו המכונית החדשה יותר מתוצרת אירופה. כמו כן 15% מהמשפחות הללו שתי המכוניות הן מתוצרת אירופאית.
- א. מה ההסתברות שמשפחה אקראית בת שתי מכוניות תהיה ללא מכוניות מתוצרת אירופה?
- ב. מה ההסתברות שלפחות מכונית אחת תהיה אירופאית?
- ג. ידוע שלמשפחה יש מכונית אירופאית.
- מה ההסתברות שרק המכונית החדשה שלה היא מתוצרת אירופאית?
- ד. אם המכונית הישנה של המשפחה היא אירופאית, מה ההסתברות שגם החדשה אירופאית?
- (2) במדינת "שומקום" 50% מהחלב במרכולים מיוצר במחלבה א', 40% במחלבה ב' והיתר במחלבה ג'. 3% מתוצרת מחלבה א' מגיעה חמוצה למרכולים ואילו במחלבה ב' 10%.
- כמו כן ידוע שבמדינת "שומקום" בסך הכול 7.5% מהחלב חמוץ.
- א. איזה אחוז מהחלב שמגיע למרכול ממחלבה ג' חמוץ?
- ב. אם נרכש חלב חמוץ במרכול. מה הסיכוי שהוא יוצר במחלבה ג'?
- ג. ברכישת חלב נמצא שהוא אינו חמוץ. מה הסיכוי שהוא יוצר במחלבה א'?
- ד. האם המאורעות: "חלב חמוץ" ו-"יוצר במחלבה א'" בלתי תלויים?
- (3) רוני ורונה יצאו לבלות במרכז בילויים עם מספר אפשרויות בילוי: בהסתברות של 0.3 הם ייצאו לבאולינג, בהסתברות של 0.5 הם ייצאו לבית קפה ובהסתברות של 0.7 הם ייצאו לפחות לאחד מהם (באולינג/קפה).
- א. מה ההסתברות שהם יצאו רק לבאולינג?
- ב. האם המאורעות "לצאת לבאולינג" ו-"לצאת לבית קפה" זרים?
- ג. האם המאורעות "לצאת לבאולינג" ו-"לצאת לבית קפה" תלויים?
- ד. מה ההסתברות שיום אחד הם יצאו רק לבאולינג וביום למחרת לא יצאו לאף אחד מהמקומות?

- 4) 70% מהנבחנים בסטטיסטיקה עוברים את מועד א'. כל מי שלא עובר את מועד א' ניגש לעשות מועד ב', מתוכם 80% עוברים אותו. מבין אלה שנכשלים בשני המועדים 50% נרשמים לקורס מחדש, והיתר פורשים מהתואר.
- מה הסיכוי שסטודנט אקראי עבר את הקורס?
 - אם סטודנט אקראי עבר הקורס, מה הסיכוי שעבר במועד ב'?
 - מה אחוז הסטודנטים שפורשים מהתואר?
 - נבחרו 2 סטודנטים אקראיים רונית וינאי, מה ההסתברות שרונית עברה במועד א' ושינאי עבר במועד ב'?
- 5) באוכלוסייה מסוימת 40% הם גברים והיתר הן נשים. מבין הגברים 10% מובטלים. בסך הכול 13% מהאוכלוסייה מובטלת.
- מה אחוז האבטלה בקרב הנשים?
 - נבחר אדם מובטל, מה ההסתברות שזו אישה?
 - נגדיר את המאורעות הבאים: A - נבחר אדם מובטל, B - נבחר גבר. האם המאורעות הללו זרים? והאם הם בלתי תלויים?
- 6) בתיבה 10 מטבעות, מתוכם 7 מטבעות רגילים (ראש, זנב) ו-3 מטבעות שבשני צדדיהם טבוע ראש. אדם בוחר באקראי מטבע ומטיל אותו פעמיים. נסמן ב-A את ההטלה הראשונה ראש וב-B את ההטלה השנייה ראש.
- חשבו את הסיכויים למאורעות A ו-B.
 - האם המאורע A ו-B בלתי תלויים?
 - ידוע שבהטלה הראשונה התקבל ראש, מה ההסתברות שהמטבע שהוטל הוא מטבע הוגן?
- 7) ערן מעוניין למכור את רכבו והוא מפרסם מודעה באינטרנט ומודעה בעיתון. מבין אלה שמעוניינים לרכוש רכב משומש 30% יראו את המודעה באינטרנט, 50% יראו את המודעה בעיתון ו-72% יראו את המודעה בלפחות אחת מהמדיות.
- מה אחוז האנשים, מאלה שמעוניינים לרכוש רכב משומש, שיראו את 2 המודעות?
 - אם אדם ראה את המודעה באינטרנט, מה ההסתברות שהוא לא ראה את המודעה בעיתון?
 - האם המאורעות: "לראות את המודעה באינטרנט" ו-"לראות את המודעה בעיתון" בלתי תלויים?
 - אדם שראה את המודעה באינטרנט בלבד יתקשר לערן בהסתברות של 0.7, אם הוא ראה את המודעה בעיתון בלבד הוא יתקשר לערן בהסתברות של 0.6 ואם הוא ראה את שתי המודעות הוא יתקשר לערן בהסתברות של 0.9.
 - מה ההסתברות שאדם המעוניין לרכוש רכב משומש יתקשר לערן?
 - אדם המעוניין לרכוש רכב משומש התקשר לערן. מה ההסתברות שהוא ראה את שתי המודעות?

8) נתונה המערכת החשמלית הבאה :



כל יחידה עובדת באופן בלתי תלוי ובהסתברות p .
 כדי שהמערכת תפעל צריך לעבור זרם מהנקודה A לנקודה B .
 הוכיחו שהסיכוי שהמערכת תפעל הוא: $P + (1 - P)(2P - P^2)^2$.

9) ליאת מעוניינת לתרגל לבחינה בהסתברות. היא מצאה באינטרנט מאגר הכולל 25 שאלות מבחינות. השאלות ממוספרות ו-6 מתוכן עוסקות במשתנה מקרי רציף. ליאת החליטה לבחור באקראי 7 שאלות מהמאגר במטרה לפתור אותן. כל שאלה שלא עוסקת במשתנה הרציף תיפתר על ידי מיכל בסיכוי של 90%, אך אם השאלה עוסקת במשתנה הרציף היא תיפתר בסיכוי של 60%.
 א. מה הסיכוי שהשאלות שנבחרו הן כולן ממוספרות בסדר עוקב?
 ב. מה הסיכוי ששאלה 20 היא השאלה עם המספור המקסימלי מבין השאלות שנבחרו?
 ג. ידוע שליאת בחרה 2 שאלות שעוסקות במשתנה הרציף והיתר לא. מה הסיכוי שתצליח לפתור 6 מתוך השאלות שבחרה?

10) נתונים שלושה מאורעות: A , B ו- C . ידוע ש: $P(A|B) = 1$, $P(A|C) = 1$.
 תנו דוגמא ספציפית למאורעות: A , B ו- C שבה המאורעות B ו- C תלויים.

11) הוכיחו או הפריכו (על ידי דוגמה נגדית) את הטענה הבאה:
 אם A ו- B בלתי תלויים, אז A ו- \bar{B} בלתי תלויים.

12) משחקים משחק מזל פעמיים, כך שבכל משחק בודד יש אפשרות לנצח או להפסיד. הסיכוי לנצח בכל משחק הוא P כאשר: $0 < P < 1$.
 נגדיר את המאורעות הבאים:
 A - תוצאות המשחקים שונות זו מזו.
 B - המשחק הראשון היה ניצחון.
 מה ערכו של P , עבורו A ו- B יהיו מאורעות בלתי תלויים?

(13) טל מניח בשורה N קוביות בצבעים שונים. בין שתי קוביות אקראיות כלשהן ערן מניח מכחול. הוכיחו שהסיכוי שהקובייה הכחולה והאדומה יהיו בצדדים

$$\frac{N+1}{3(N-1)} : \text{שונים של המכחול הוא}$$

(14) הוכיחו באמצעות אינדוקציה את אי שוויון בול: $P\left(\bigcup_{i=1}^n A_i\right) \leq \sum_{i=1}^n P(A_i)$.

תשובות סופיות:

- (1) א. 0.25 ב. 0.75 ג. 0.6 ד. 0.5
- (2) א. 0.2 ב. 0.267 ג. 0.524 ד. תלויים.
- (3) א. 0.2 ב. אינם זרים. ג. תלויים. ד. 0.06
- (4) א. 0.94 ב. 0.255 ג. 0.03 ד. 0.168
- (5) א. 15% ב. 0.692 ג. לא זרים ותלויים.
- (6) א. 0.65 ב. תלויים. ג. 0.5384
- (7) א. 8% ב. 0.733 ג. תלויים.
- ד. i. 0.478 ד. ii. 0.15
- (8) שאלת הוכחה.
- (9) א. $\frac{19}{480,700}$ ב. $\frac{27,132}{480,700}$ ג. 0.4015
- (10) ראו סרטון.
- (11) שאלת הוכחה.
- (12) $\frac{1}{2}$
- (13) שאלת הוכחה.
- (14) שאלת הוכחה.

מבוא להסתברות

פרק 17 - המשתנה המקרי הברידי - פונקציית ההסתברות

תוכן העניינים

1. כללי 59

המשתנה המקרי הבדיד – פונקציית ההסתברות:

רקע:

משתנה מקרי בדיד:

משתנה מקרי בדיד הינו משתנה היכול לקבל כמה ערכים בודדים בהסתברויות שונות.

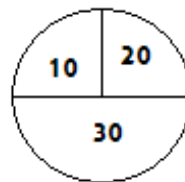
מתארים את המשתנה המקרי על ידי פונקציית ההסתברות.

פונקציית ההסתברות:

פונקציה המתאימה לכל ערך אפשרי של המשתנה את ההסתברות שלה. סכום ההסתברויות על פונקציית ההסתברות חייב להיות 1.

דוגמה (פתרון בהקלטה):

בקזינו יש רולטה כמתואר בשרטוט:



אדם מסובב את הרולטה וזוכה בסכום הרשום על הרולטה בש"ח. בנו את פונקציית ההסתברות של סכום הזכייה במשחק בודד.

שאלות:

- (1) ידוע שביישוב מסוים התפלגות מספר המכוניות למשפחה היא :
 50 משפחות אינן מחזיקות במכונית.
 70 משפחות עם מכונית אחת.
 60 משפחות עם 2 מכוניות.
 20 משפחות עם 3 מכוניות .
 בוחרים באקראי משפחה מהיישוב, נגדיר את X להיות מספר המכוניות של המשפחה שנבחרה. בנו את פונקציית ההסתברות של X .
- (2) מהאותיות : A, B, C יוצרים קוד דו תווי.
 א. כמה קודים ניתן ליצור?
 ב. רשמו את כל הקודים האפשריים.
 ג. נגדיר את X להיות מספר הפעמים שהאות B מופיעה בקוד.
 בנו את פונקציית ההסתברות של X .
- (3) תלמיד ניגש בסמסטר לשני מבחנים : מבחן בכלכלה ומבחן בסטטיסטיקה. כמו כן, נתון שהסיכוי לעבור את המבחן בכלכלה הנו 0.8, הסיכוי לעבור את המבחן בסטטיסטיקה הנו 0.9 והסיכוי לעבור את שני המבחנים הנו 0.75. יהי X מספר המבחנים שהסטודנט עבר. בנו את פונקציית ההסתברות של X .
- (4) הסיכוי לזכות במשחק מסוים הינו 0.3. אדם משחק את המשחק עד אשר הוא מנצח אך בכל מקרה הוא לא משחק את המשחק יותר מ-4 פעמים. נגדיר את X להיות מספר הפעמים שהוא שיחק את המשחק. בנו את פונקציית ההסתברות של X .
- (5) חברה לניהול פרויקטים מנהלת 3 פרויקטים במקביל. הסיכוי שפרויקט א' יצליח הינו 0.7, הסיכוי שפרויקט ב' יצליח הינו 0.8, והסיכוי שפרויקט ג' יצליח הינו 0.9. נתון שהצלחת כל פרויקט בלתי תלויה זו בזו. נגדיר את X להיות מספר הפרויקטים שיצליחו. בנו את פונקציית ההסתברות של X .
- (6) להלן פונקציית הסתברות של משתנה מקרי כלשהו : $k = 1, 2, \dots, 4$, $P(X = k) = \frac{k}{A}$. מצאו את ערכו של A .

- (7) בגן ילדים 8 ילדים, מתוכם 5 בנים ו-3 בנות. בוחרים באקראי 3 ילדים להשתתף בהצגה. נגדיר את X כמספר הבנים שנבחרו להצגה. בנו את פונקציית ההסתברות של X .
- (8) בסקר שנערך בדקו בקרב אנשים האם הם צופים במהדורת החדשות של ערוצים 1,2,10. להלן הנתונים:
- 20% צופים בערוץ 2.
 - 8% צופים בערוץ 1.
 - 10% צופים בערוץ 10.
- כמו כן נתון ש 1% צופים בשלושת המהדורות גם יחד. 10% צופים בשתי המהדורות מתוך השלושה. נגדיר את X להיות מספר המהדורות מבין 3 המהדורות המדוברות שאדם אקראי צופה. בנו את פונקציית ההסתברות של X .

תשובות סופיות:

(1) להלן טבלה:

3	2	1	0	X
0.1	0.3	0.35	0.25	$P(X)$

(2) להלן טבלה:

2	1	0	X
$\frac{1}{9}$	$\frac{4}{9}$	$\frac{4}{9}$	$P(X)$

(3) להלן טבלה:

2	1	0	X
0.75	0.20	0.05	$P(X)$

(4) להלן טבלה:

4	3	2	1	X
0.343	0.147	0.21	0.3	$P(X)$

(5) להלן טבלה:

3	2	1	0	X
0.504	0.398	0.092	0.006	$P(X)$

(6) 10.

(7) להלן טבלה:

4	3	2	1	X
$\frac{10}{56}$	$\frac{30}{56}$	$\frac{15}{56}$	$\frac{1}{56}$	$P(X)$

(8) להלן טבלה:

4	3	2	1	X
0.01	0.1	0.15	0.74	$P(X)$

מבוא להסתברות

פרק 18 - המשתנה המקרי הבדיד - תוחלת - שונות וסטיית תקן

תוכן העניינים

1. כללי 63

המשתנה המקרי הבדיד – תוחלת, שונות וסטיית תקן:

רקע:

תוחלת:

ממוצע של פונקציית ההסתברות, אם נבצע את התהליך אינסוף פעמים כמה בממוצע נקבל. התוחלת היא צפי של המשתנה המקרי.

$$\text{מגדירים תוחלת באופן הבא: } E(X) = \sum_i x_i P(x_i) = \mu$$

שונות:

תוחלת ריבועי הסטיות מהתוחלת – נותן אינדיקציה על הפיזור והסיכון של פונקציית ההסתברות.

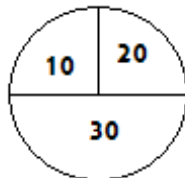
$$\text{מגדירים שונות באופן הבא: } V(X) = \sum_i (x_i - \mu)^2 P(x_i) = \sum_i x_i^2 P(x_i) - \mu^2 = \sigma^2$$

סטיית תקן:

שורש של השונות – הפיזור הממוצע הצפוי סביב התוחלת. מסמנים: $STD = \sigma$.

דוגמה:

בקזינו רולטה כמוראה בשרטוט. אדם מסובב את הרולטה וזוכה בסכום הרשום על הרולטה ב-ש. הסתברות לקבלת הסכומים השונים:



30	20	10	X
0.5	0.25	0.25	$P(X)$

$$E(X) = 10 \cdot 0.25 + 20 \cdot 0.25 + 30 \cdot 0.5 = 22.5 = \mu$$

$$V(X) = \sum_i (x_i - \mu)^2 P(x_i) =$$

$$= (10 - 22.5)^2 \cdot 0.25 + (20 - 22.5)^2 \cdot 0.25 + (30 - 22.5)^2 \cdot 0.5 = 68.75 = \sigma^2$$

$$\text{כדי לחשב את סטיית התקן נוציא שורש לשונות: } \sigma_x = \sqrt{V(X)} = \sqrt{68.75} = 8.29$$

שאלות:

- (1) אדם משחק במשחק מזל. נגדיר את X להיות סכום הזכייה. להלן פונקציית ההסתברות של X :

40	20	0	-30	X
0.2	0.3	0.1	0.4	$P(X)$

מהי התוחלת, השונות וסטית התקן של X ?

- (2) בישוב מסוים שני סניפי בנק: בנק פועלים ובנק לאומי. מתוך האוכלוסייה הבוגרת בישוב, ל-50% חשבון בנק בסניף הפועלים, ל-40% חשבון בנק בסניף לאומי ול-20% מהתושבים הבוגרים אין חשבון באף אחד מהסניפים. יהי X מס' סניפי הבנק שלבוגר בישוב יש בהם חשבון. חשבו את: $E(X)$.

- (3) ידוע של-20% מהמשפחות יש חיבור לווייני בביתם. בסקר אדם מחפש לראיין משפחה המחוברת ללוויין. הוא מטלפן באקראי למשפחה וממשיך עד אשר הוא מגיע למשפחה המחוברת ללוויין. בכל מקרה הסוקר לא יתקשר ליותר מ-5 משפחות. נגדיר את X להיות מספר המשפחות שאליהן האדם יתקשר. א. בנו את פונקציית ההסתברות של X . ב. חשבו את התוחלת וסטית התקן של X .

- (4) לאדם צרור מפתחות. בצרור 5 מפתחות אשר רק אחד מתאים לדלת של ביתו. האדם מנסה את המפתחות באופן מקרי. לאחר שניסה מפתח מסוים הוא מוציא אותו מהצרור כדי שלא ישתמש בו שוב. נסמן ב- X את מספר הניסיונות עד שהדלת תפתח. א. בנו את פונקציית ההסתברות של X . ב. חשבו את התוחלת והשונות של X .

5) נתונה פונקציית ההסתברות של המשתנה המקרי X :

8	6	4	2	X
0.2		0.3		$E(X)$

כמו כן נתון ש: $E(X) = 4.2$.

א. מצאו את ההסתברויות החסרות בטבלה.

ב. חשבו את: $V(X)$.

6) משתנה מקרי בדיד מקבל את הערכים 5-0 ו-5. נתון שהתוחלת של המשתנה 0 ושהשונות היא 10. מצא את פונקציית ההסתברות.

7) להלן ההתפלגות של משתנה מקרי:

X	P
1	$\frac{1}{4}$
3	$\frac{1}{2}$
K	$\frac{1}{4}$

מהו הערך שייתן ערך מינימלי לשונות של X ?

תשובות סופיות:

(1) תוחלת: 2, שונות: 796.

(2) 0.9.

(3) א. ראו סרטון. ב. תוחלת: 3.36, סטיית תקן: 1.603.

(4) א. ראו טבלה: ב. תוחלת: 3, שונות: 2.

5	4	3	2	1	X
0.2	0.2	0.2	0.2	0.2	$P(X)$

(5) א. ראו טבלה: ב. 5.16.

8	6	4	2	X
0.2	0.1	0.3	0.4	$P(X)$

(6) ראו טבלה:

5	0	-5	X
0.2	0.6	0.2	$P(X)$

(7) 2.33.

מבוא להסתברות

פרק 19 - המשתנה המקרי הבדיד - תוחלת של פונקציה של משתנה מקרי
בדיד

תוכן העניינים

1. ראשי.....67

תוחלת של פונקציה של משתנה מקרי בדיד:

רקע:

יהי X משתנה מקרי, ותהי $g(X)$ פונקציה של X . אז:

$$E(g(X)) = g(x_1)P(X = x_1) + g(x_2)P(X = x_2) + g(x_3)P(X = x_3) + \dots$$

$$= \sum_i g(x_i) \cdot P(x_i)$$

כאשר x_1, x_2, x_3, \dots הם הערכים שהמשתנה X מקבל.

דוגמה (פתרון בהקלטה):

נתון:

X	0	1	2
$P(X)$	$\frac{1}{3}$	$\frac{1}{2}$	$\frac{1}{6}$

מצאו התפלגות ותוחלת של: $Y = X^2$.

שאלות:

- (1) מסובבים רולטה עליה המספרים 1 עד 4. יהיה X המספר שהתקבל לאחר סיבוב הרולטה. התפלגות X היא כדלהלן:

X	4	3	2	1
$P(X)$	0.3	0.4	0.2	0.1

א. חשבו את: $E(X)$, $E\left(\frac{1}{X}\right)$.

ב. האם: $E\left(\frac{1}{X}\right) = \frac{1}{E(X)}$?

- (2) יהי X משתנה מקרי בעל פונקציית ההסתברות הבאה:

2	1	0	X
0.75	0.20	0.05	$P(X)$

חשבו את התוחלת של:

א. X^2 .

ב. 2^X .

- (3) להלן פונקציית הסתברות של משתנה מקרי כלשהו: $P(X = k) = \frac{k}{A}$, $k = 1, 2, \dots, 4$.

א. מצאו את ערכו של A .

ב. חשבו את: $E\left([X - E(X)]^2\right)$.

- (4) בכל יום משחק ערן משחק יחיד בכל אחת מהאפליקציות הבאות: TWODOTS ו-PIANOTILES. בכל אחד מהמשחקים ישנם שלבים שיש לעבור. משחק בודד מסתיים בהצלחה אם ערן עבר את שלב, ובכישלון אם ערן לא עבר את השלב. ההסתברות שבאפליקציית TWODOTS ערן יעבור שלב היא 0.6 בכל יום. ההסתברות שבאפליקציית PIANOTILES ערן יעבור שלב היא 0.35 בכל יום. נניח שמעבר שלב בכל אחד מהמשחקים בלתי תלוי במשחק אחר. נסמן ב- W את מספר המשחקים שערן יעבור שלב בהם מחר.

א. חשבו את $E(W)$.

ב. חשבו את $E(W^3)$.

(5) יהי X משתנה מקרי בדיד עם תוחלת ושונויות סופיים: $Y = aX + b$, כאשר $a \neq 0$.
 a, b הינם פרמטרים. יש להוכיח ש: $E(Y) = aE(X) + b$, $V(Y) = a^2 \cdot V(X)$.

(6) אלעד צופה בסדרה בת 6 פרקים. 3 פרקים מתוך ה-6 הם פרקים שצולמו בישראל ו-3 פרקים אחרים צולמו בבולגריה. פרק אחד מבין הפרקים שצולמו בבולגריה מצולם כולו ביער. אלעד צופה בפרקי הסדרה בסדר אקראי, עד אשר הוא מגיע לפרק שצולם ביער בבולגריה. נגדיר את W כמספר הפרקים שצולמו בבולגריה שבהם יצפה אלעד.

א. מהי התפלגות W ?

ב. חשבו: $E(W^3)$.

(7) למיקה יש 20 חולצות ו-3 מגירות. כאשר מיקה מסדרת את 20 החולצות במגירות היא בוחרת עבור כל חולצה, באופן מקרי ובלתי תלוי בחולצות האחרות, את המגירה אליה תכניס את החולצה (כל אחת מהמגירות יכולה להכיל את כל החולצות).

נסמן ב- X את מספר המגירות המכילות בדיוק 10 חולצות.

מצאו את התפלגות X ואת: $E(\sqrt{X+2})$.

(8) מטבע מוטל 10 פעמים. $X =$ מספר הפעמים שהתקבלה התוצאה ראש.

א. בנו את פונקציית ההסתברות של X .

ב. הרווח במשחק הוא 4^X . מצאו את התוחלת של הרווח במשחק.

$$\text{רמז: היעזרו בבינום של ניוטון: } (a+b)^n = \sum_{k=0}^n \binom{n}{k} a^k b^{n-k}$$

תשובות סופיות:

(1) א. $E\left(\frac{1}{X}\right) = 0.4083$, $E(X) = 2.9$. ב. לא.

(2) א. 3.2. ב. 3.45.

(3) א. 10. ב. 1.

(4) א. 0.95. ב. 2.21.

(5) הוכחה.

(6) א. $X \sim U(1,3)$. ב. 12.

(7) $E(\sqrt{X+2}) = 1.4659$.

(8) א. $X \sim B(10,0.5)$. ב. 2.5^{10} .

מבוא להסתברות

פרק 20 - המשתנה המקרי הברידי - טרנספורמציה לינארית

תוכן העניינים

1. כללי 70

המשתנה המקרי הבדיד – טרנספורמציה לינארית:

רקע:

טרנספורמציה לינארית היא מצב שבו מבצעים הכפלה של קבוע ו/או הוספה של קבוע על המשתנה המקורי (כולל גם חלוקה של קבוע והחסרה של קבוע).

בניסוח מתמטי נאמר כי אם משתנה אקראי Y מיוצג ע"י משתנה אקראי X כאשר a, b הם קבועים כלשהם: $Y = aX + b$, אזי מתקיימים:

$$E(Y) = aE(X) + b \quad (1)$$

$$V(Y) = a^2 \cdot V(X) \quad (2)$$

$$\sigma_Y = |a| \sigma_X \quad (3)$$

שלבי העבודה:

- (1) נזהה שמדובר בטרנספורמציה לינארית (שינוי קבוע לכל התצפיות).
- (2) נרשום את כלל הטרנספורמציה לפי נתוני השאלה.
- (3) נפשט את הכלל ונזהה את ערכי a ו- b .
- (4) נציב בנוסחאות שלעיל בהתאם למדדים שנשאלים.

דוגמה – הרולטה:

בהמשך לנתוני שאלת הרולטה נתון שעלות השתתפות במשחק 15 ₪. מהי התוחלת והשונות של הרווח במשחק?

פתרון (בהקלטה):

חישבנו קודם ש: $E(X) = 22.5 = \mu$, $V(X) = 68.75 = \sigma^2$.

שאלות:

(1) סטודנט ניגש ל-5 קורסים הסמסטר. נניח שכל קורס שסטודנט מסיים מזכה אותו ב-4 נקודות אקדמאיות. חשבו את התוחלת והשונות של סך הנקודות שיצבור הסטודנט כאשר נתון שתוחלת מספר הקורסים שיסיים היא 3.5 עם שונות 2.

(2) תוחלת סכום הזכייה במשחק מזל הינה 10 עם שונות 3. הוחלט להכפיל את סכום הזכייה במשחק. עלות השתתפות במשחק הינה 12. מה התוחלת ומהי השונות של הרווח במשחק?

(3) תוחלת של משתנה מקרי הינה 10 וסטית התקן 5. הוחלט להוסיף 2 למשתנה ולאחר מכן להעלות אותו ב-10%. מהי התוחלת ומהי סטיית התקן לאחר השינוי?

(4) X הינו משתנה מקרי. כמו כן נתון ש- $E(X) = 4$ ו- $V(X) = 3$.
 Y הינו משתנה מקרי חדש, עבורו: $Y = 7 - X$. חשבו את: $E(Y)$ ו- $V(Y)$.

(5) אדם החליט לבטח את רכבו; שווי הרכב 100,000 ₪. להלן התביעות האפשריות והסתברותן: בהסתברות של 0.001 תהיה תביעה טוטאלוסט (כל שווי הרכב). בהסתברות של 0.02 תהיה תביעה בשווי מחצית משווי הרכב. בהסתברות של 5% תהיה תביעה בשווי רבע משווי הרכב. אחרת אין תביעה בכלל. החברה מאפשרת תביעה אחת בשנה. נסמן ב- X את גובה התביעה השנתית, באלפי ₪.
 א. בנו את פונקציית ההסתברות של X .
 ב. חשבו את התוחלת והשונות של גובה התביעה.
 ג. פרמיית הביטוח היא 4,000 ₪.
 מהי התוחלת ומהי השונות של רווח חברת הביטוח לביטוח הרכב הנייל?

(6) יהי X מספר התשובות הנכונות במבחן בו 10 שאלות. פונקציית ההסתברות של X נתונה בטבלה הבאה:

10	9	8	7	6	5	X
		0.3	0.2	0.2	0.1	$P(X)$

כמו כן, נתון שצפי מספר התשובות הנכונות בבחינה הוא 7.35.

- השלימו את פונקציית ההסתברות.
- חשבו את השונות מספר התשובות הנכונות בבחינה.
- הציון בבחינה מחושב באופן הבא: כל שאלה נכונה מזכה ב-10 נקודות. לכל שאלה שגויה, מופחתת נקודה. מהי התוחלת ומה השונות של הציון בבחינה?

(7) להלן פונקציית הסתברות של משתנה מקרי כלשהו: $P(X = k) = \frac{k}{A}$, $k = 1, 2, \dots, 4$.

א. מצא את ערכו של A .

ב. חשב את התוחלת והשונות של המשתנה הנחקר.

ג. חשב את: $E(X^3)$.

ד. חשב את התוחלת והשונות של המשתנה הבא: $\frac{X}{2} - 4$.

תשובות סופיות:

(1) תוחלת: 14, שונות: 32.

(2) תוחלת: 8, שונות: 12.

(3) תוחלת: 13.2, סטיית תקן: 5.5.

(4) תוחלת: 3, שונות: 3.

(5) א. להלן טבלה: ב. תוחלת: 2350, שונות: $85,727.5^2$.

0	25	50	100	X
0.929	0.05	0.02	0.001	$P(X)$

ג. תוחלת: 1650, שונות: $85,727.5^2$.

(6) ב. $V(X) = 1.8275$.

(7) א. $A = 10$. ב. $E(X) = 3$, $V(X) = 1$. ג. $E(X^3) = 35.4$, $V(X^3) = 616.84$.

ד. $E(Y) = -2.5$, $V(Y) = 0.25$.

מבוא להסתברות

פרק 21 - תוחלת ושוונות של סכום משתנים מקריים

תוכן העניינים

73 1. כללי

תוחלת ושונות של סכום משתנים מקריים:

רקע:

אם: X_1, X_2, \dots, X_n משתנים מקריים אזי:

$$E(T) = E(X_1 + X_2 + \dots + X_n) = E(X_1) + E(X_2) + \dots + E(X_n)$$

אם: X_1, X_2, \dots, X_n משתנים מקריים בלתי תלויים בזוגות, אזי:

$$V(T) = V(X_1 + X_2 + \dots + X_n) = V(X_1) + V(X_2) + \dots + V(X_n)$$

דוגמה:

אדם משחק בשני משחקי מזל בלתי תלויים. תוחלת סכום הזכייה של המשחק הראשון היא 7 עם סטיית תקן 3. תוחלת סכום הזכייה של המשחק השני היא 2- עם סטיית תקן 4.

מה התוחלת ומהי השונות של סכום הזכייה הכולל של שני המשחקים יחד?

שאלות:

(1) הרווח ממניה א' הוא עם תוחלת של 5 ושונויות 10. הרווח ממניה ב' הוא עם תוחלת של 4 ושונויות. ידוע שההשקעות של שתי המניות בלתי תלויות זו בזו. מה התוחלת והשונויות של הרווח הכולל מהשקעה בשתי המניות יחד?

(2) X ו- Y הם משתנים בלתי תלויים, סטיית התקן של X היא 3. סטיית התקן של Y היא 4. מהי סטיית התקן של $X+Y$?

(3) אדם משחק בשני משחקי מזל בלתי תלויים זה בזה: X - סכום הזכייה במשחק הראשון. Y - סכום הזכייה במשחק השני. נתון:

$$\sigma(X) = 3, \quad E(x) = 10$$

$$\sigma(Y) = 4, \quad E(y) = 12$$

מהי התוחלת ומהי סטיית התקן של סכום הזכייה בשני המשחקים?

(4) ברולטה הסיכוי לזכות ב- 30 ש"ח הוא חצי, ב-10 ש"ח רבע וכך גם ב-20 ש"ח. מה היא התוחלת והשונויות של סכום הזכייה הכולל לאדם המשחק ברולטה 4 פעמים?

(5) נתון משתנה מקרי בעל פונקציית ההסתברות הבאה:

$$K = 2, 3, 4, 5, \quad P(X = K) = \frac{A}{K-1}$$

$$0 \leq A < 1$$

מצאו את ערכו של A .

א. חשבו את התוחלת והשונויות של X .

ב. נלקחו n משתנים מקריים בלתי תלויים מההתפלגות הנ"ל. בטאו באמצעות n את תוחלת והשונויות של סכום המשתנים.

תשובות סופיות:

- (1) תוחלת: 9, שונות: 15.
- (2) 5.
- (3) תוחלת: 22, שונות: 5.
- (4) תוחלת: 90, שונות: 275.
- (5) א. $A = \frac{12}{25} = 0.48$. ב. תוחלת: 2.92, שונות: 1.1136.
ג. תוחלת: 2.92, שונות: $1.1136n$.

מבוא להסתברות

פרק 22 - התפלגויות בדידות מיוחדות - התפלגות בינומית

תוכן העניינים

76 1. כללי

התפלגויות בדידות מיוחדות – התפלגות בינומית:

רקע:

נגדיר את המושג ניסוי ברנולי:
 ניסוי ברנולי הנו ניסוי שיש לו שתי תוצאות אפשריות: "הצלחה" ו"כישלון".
 למשל מוצר פגום או תקין, אדם עובד או מובטל, עץ או פלי בהטלת מטבע וכדומה.
 בהתפלגות בינומית חוזרים על אותו ניסוי ברנולי n פעמים באופן בלתי תלוי זה בזה.
 מגדירים את X להיות מספר ההצלחות שהתקבלו בסך הכול. נסמן ב- P את הסיכוי
 להצלחה בניסוי בודד, וב- Q את הסיכוי לכישלון בניסוי בודד.
 ואז נגיד ש: $X \sim B(n, p)$.

פונקציית ההסתברות של X :

$$P(X = K) = \binom{n}{k} p^k (1-p)^{n-k} \quad k = 0, 1, 2, \dots, n$$

$$\binom{n}{k} = \frac{n!}{k!(n-k)!}; \quad n! = n \cdot (n-1) \cdot (n-2) \cdot \dots \cdot 1; \quad 0! = 1$$

לגודל: $\binom{n}{k}$: ניתן לחשב באמצעות המחשבון.

$$E(X) = np \quad \text{תוחלת:}$$

$$V(X) = npq \quad \text{שונות:}$$

שימו לב, כדי לזהות שמדובר בהתפלגות בינומית צריכים להתקיים כל התנאים הבאים:

- (1) חוזרים על אותו ניסוי ברנולי באופן בלתי תלוי זה בזה.
- (2) חוזרים על הניסוי n פעמים.
- (3) X – מוגדר כמספר ההצלחות המתקבלות בסך הכול.

דוגמה (פתרון בהקלטה):

במדינה מסוימת ל-80% מהתושבים יש רישיון נהיגה.
 נבחרו 10 תושבים אקראיים מהמדינה.

- א. מה ההסתברות שבדיוק ל-9 מהם יש רישיון נהיגה?
- ב. מה ההסתברות שלפחות ל-9 מהם יש רישיון נהיגה?
- ג. מהי התוחלת ומהי סטיית התקן של מספר התושבים שנדגמו ושיש להם רישיון נהיגה?

שאלות:

- (1) במדינה 10% מהאוכלוסייה מובטלת. נבחרו 5 אנשים באקראי מאותה אוכלוסייה. נגדיר את X להיות מספר המובטלים שהתקבלו במדגם.
- מהי ההתפלגות של X ?
 - מה ההסתברות שיהיה בדיוק מובטל אחד?
 - מה ההסתברות שכולם יעבדו במדגם?
 - מה ההסתברות שלושה יעבדו במדגם?
 - מה ההסתברות שלפחות אחד יהיה מובטל?
 - מה תוחלת ומהי השונות של מספר המובטלים במדגם?
- (2) על פי נתוני משרד התקשורת ל-70% מהאוכלוסייה יש סמארטפון. נבחרו 10 אנשים באקראי. נגדיר את X כמספר האנשים שנדגמו עם סמארטפון.
- מהי ההתפלגות של X ? הסבירו.
 - מה ההסתברות שבמדגם ל-8 אנשים יש סמארט-פון?
 - מה ההסתברות שבמדגם לפחות ל-9 יהיו סמארט-פון?
 - מה התוחלת ומה סטיית התקן של מספר האנשים שנדגמו ולהם סמארט-פון?
- (3) בבית הימורים יש שורה של 6 מכונות מזל מאותו סוג. משחק במכונת מזל כזו עולה 5 ₪. ההסתברות לזכות ב-20 ₪ בכל אחת מהמכונות היא 0.1 וההסתברות להפסיד את ההשקעה היא 0.9 בכל מכונה. מהמר נכנס לבית הימורים ומכניס 5 ₪ לכל אחת מ-6 המכונות.
- מה ההסתברות שיפסיד בכל המכונות?
 - מה ההסתברות שיזכה בדיוק בשתי מכונות?
 - מה ההסתברות שיזכה ביותר כסף מה-30 ₪ שהשקיע?
 - מהן התוחלת וסטיית התקן של הרווח נטו של המהמר (הזכיות בניכוי ההשקעה)?
- (4) במדינה מסוימת התפלגות ההשכלה בקרב האוכלוסייה מעל גיל 30 היא כזו:

השכלה	נמוכה	תיכונית	תואר I	תואר II ומעלה
פרופורציה	0.1	0.6	0.2	0.1

- נבחרו 20 אנשים אקראיים מעל גיל 30.
- מה ההסתברות ש-5 מהם אקדמאים?
 - מה התוחלת של מס' בעלי ההשכלה הנמוכה?

- (5) במכללה מסוימת 20% מהסטודנטים גרים בת"א. מבין הסטודנטים שגרים בת"א 30% מגיעים ברכבם, ומבין הסטודנטים שלא גרים בת"א 50% מגיעים ברכבם למכללה.
- א. השומר בשער המכללה בודק לכל סטודנט את תיקו בהיכנסו למכללה. מה ההסתברות שבקרב 5 סטודנטים שנבדקו ע"י השומר רק 1 מתוכם הגיע למכללה ברכבו?
- ב. בהמשך לסעיף הקודם מה ההסתברות שרוב הסטודנטים בקרב ה-5 הגיעו למכללה ברכבם?
- (6) במבחן אמריקאי 20 שאלות. סטודנט ניגש למבחן והסיכוי שהוא יודע שאלה כלשהי הוא 0.8. אם הוא לא יודע הוא מנחש את התשובה. לכל שאלה 4 תשובות אפשריות שרק אחת מהן נכונה.
- א. מה הסיכוי לענות על שאלה מסוימת נכון?
- ב. מה הסיכוי שיענה נכונה על בדיוק 16 שאלות?
- ג. על כל שאלה שענה נכון התלמיד מקבל 5 נקודות, על כל שאלה ששגה מופחתת נקודה, מה התוחלת ומהי השונות של ציון התלמיד?
- (7) 5% מקו היצור פגום. המוצרים נארזים בתוך קופסת קרטון. בכל קופסא 10 מוצרים שונים. הקופסאות נארזות בתוך מכולה. בכל מכולה 20 קופסאות.
- א. מה ההסתברות שבקופסא אקראית לפחות מוצר פגום אחד?
- ב. מה התוחלת ומהי סטיית התקן של מספר הקופסאות במכולה בהן לפחות מוצר פגום אחד?
- (8) מטבע הוגן מוטל 5 פעמים. נגדיר את X כמספר הפעמים שהתקבל עץ. חשבו את: $E(X^2)$.

תשובות סופיות:

- (1) א. $X \sim B(n=5, p=0.1)$ ב. 0.32805 ג. 0.59049
 ד. 0.0729 ה. 0.40954 ו. תוחלת: 0.5, שונות: 0.45
- (2) א. 0.2335 ב. 0.1493 ג. 0.1493 ד. תוחלת: 7, סטיית תקן: 1.449
- (3) א. 0.5314 ב. 0.0984 ג. 0.1143 ד. תוחלת: -18, סטיית תקן: 14.697
- (4) א. 0.1789 ב. 2
- (5) א. 0.1956 ב. 0.4253
- (6) א. 0.85 ב. 0.182 ג. תוחלת: 82, שונות: 91.8
- (7) א. 0.401 ב. תוחלת: 8.025, סטיית תקן: 2.193
- (8) 7.5

מבוא להסתברות

פרק 23 - התפלגויות בדידות מיוחדות - התפלגות גיאומטרית

תוכן העניינים

1. כללי 80

התפלגויות בדידות מיוחדות – התפלגות גיאומטרית:

רקע:

חוזרים באופן בלתי תלוי על אותו ניסוי ברנולי.
 X – מוגדר להיות מספר הניסויים שבוצעו עד ההצלחה הראשונה, כולל.
 נסמן ב- p את הסיכוי להצלחה בניסויי בודד וב- q את הסיכוי לכישלון בניסוי בודד.
 $X \sim G(p)$

פונקציית ההסתברות: $P(X = k) = pq^{k-1}$, $k = 1, 2, \dots, \infty$.

תוחלת: $E(X) = \frac{1}{p}$

שונות: $V(X) = \frac{q}{p^2}$

תכונות חשובות:

אם X מתפלג על פי התפלגות גיאומטרית, אזי X הוא בעל תכונת חוסר זיכרון,
 דהיינו, $P(X > k) = q^k \cdot P(X = (n+k) / X > k) = P(X = n)$.

דוגמה (פתרון בהקלטה):

בכד 10 כדורים ש-3 מהם ירוקים. אדם מוציא באקראי כדור אחר כדור עד שבידו כדור ירוק. ההוצאה היא עם החזרת הכדור לכד בכל פעם מחדש.

- מהי ההתפלגות של מספר הכדורים שהוצאו?
- מה ההסתברות שהוצאו בדיוק 5 כדורים?
- מה ההסתברות שהוצאו יותר מ-5 כדורים?
- אם הוצאו יותר מ-3 כדורים. מה הסיכוי שהוצאו בדיוק 5 כדורים?
- מה התוחלת וסטיית התקן של מספר הכדורים שהוצאו?

שאלות:

- (1) קו ייצור המוני מייצר מוצרים כך ש-5% מהם פגומים. איש בקרת איכות דוגם באופן מקרי מוצרים מקו הייצור עד אשר בידו מוצר פגום. חשבו את ההסתברויות הבאות:
- שידגום 3 מוצרים.
 - שידגום 4 מוצרים.
 - שידגום 5 מוצרים.
 - שידגום יותר מ-7 מוצרים.
 - שידגום לא פחות מ-8 מוצרים.
- (2) צילום שמבוצע במכון הרנטגן "X-RAY" יתקבל תקין בהסתברות של 0.9. אדם נכנס למכון כדי להצטלם, והוא ייצא מהמכון רק כאשר יש בידו תצלום תקין.
- מה ההסתברות שיצטלם בסך הכול 3 פעמים?
 - מה ההסתברות שהצטלם יותר מ-4 פעמים?
 - מה התוחלת ומה השונות של מספר הצילומים שייבצע?
 - כל צילום עולה למכון 50 ₪. אדם משלם על צילום תקין 100 ₪. מה התוחלת ומה השונות של רווח המכון מאדם שהגיע להצטלם?
- (3) מטילים מטבע עד אשר מתקבלת התוצאה "עץ".
- מה ההסתברות להטיל את המטבע לכל היותר 10 פעמים?
 - מה ההסתברות להטיל את המטבע לכל היותר 5 פעמים, אם ידוע שהמטבע הוטל לפחות 3 פעמים?
 - אם ידוע שבשתי ההטלות הראשונות התקבלה התוצאה "פלי", מה ההסתברות שהאדם הטיל את המטבע 7 פעמים?
 - מה תוחלת מספר הפעמים שהתקבלה התוצאה "פלי"?
- (4) 30% מהמכוניות בארץ הן בצבע לבן. בכל יום נכנסות לחניון כשלהו 10 מכוניות אקראיות.
- מה ההסתברות שביום מסוים בדיוק מחצית מהמכוניות בחניון יהיו לבנות?
 - מה תוחלת מספר הימים שיעברו מהיום עד שלראשונה מחצית מהמכוניות בחניון יהיו לבנות?

- (5) אדם משחק במשחק מזל עד אשר הוא מפסיד. הצפי הוא שישחק את המשחק 10 פעמים. מה הסיכוי להפסיד במשחק בודד?
- א. מה ההסתברות שישחק את המשחק בדיוק 6 פעמים?
 ב. מה ההסתברות שישחק את המשחק לכל היותר 12 פעמים?
 ג. ידוע שהאדם שיחק את המשחק יותר מ-6 פעמים.
 מה ההסתברות שישחק את המשחק בדיוק 10 פעמים?
 ד. מהי סטיית התקן של מספר הפעמים שישחק את המשחק?
- (6) במאפייה מייצרים עוגות גבינה ועוגות שוקולד שנארזות באריזות אטומות. 40% מהעוגות הן עוגות גבינה והיתר שוקולד. התווית על האריזה מודבקת בשלב מאוחר יותר של הייצור. אדם נכנס למפעל ובוחר באקראי עוגה.
- א. מה ההסתברות שייאלץ לבחור 5 עוגות עד שקיבל עוגות שוקולד?
 ב. אם הוא דגם פחות מ-7 עוגות עד שיקבל עוגת שוקולד, מה ההסתברות שבפועל הוא דגם יותר מ-4 עוגות?
 ג. האדם דוגם עוגות עד אשר הוא מוצא עוגת שוקולד. ידוע שעוגת גבינה עולה ליצרן 50 שקלים ועוגת שוקולד 30 שקלים. מהי התוחלת ומהי השונות של עלות הייצור הכוללת של העוגות שדגם?
 ד. בהמשך לסעיף הקודם, מהי התוחלת ומהי סטיית התקן של מספר עוגות הגבינה שדגם האדם?

תשובות סופיות:

- (1) א. 0.04512 ב. 0.0428 ג. 0.0407 ד. 0.6983 ה. 0.6983
- (2) א. 0.009 ב. 0.0001 ג. תוחלת: 1.111, שונות: 0.1234
 ד. תוחלת: 44.4, שונות: 308.5
- (3) א. 0.999 ב. 0.875 ג. 0.03125 ד. 1
- (4) א. 0.1029 ב. 9.72
- (5) א. 0.06 ב. 0.7176 ג. 0.0729 ד. 9.487
- (6) א. 0.015 ב. 0.0215 ג. תוחלת: $63\frac{1}{3}$, שונות: $2777\frac{7}{9}$
 ד. תוחלת $\frac{2}{3}$, שונות 1.054

מבוא להסתברות

פרק 24 - התפלגויות בדידות מיוחדות - התפלגות אחידה

תוכן העניינים

83 1. כללי

התפלגויות בדידות מיוחדות – התפלגות אחידה:

רקע:

התפלגות אחידה הינה התפלגות שבה לכל תוצאה יש את אותה הסתברות. הערכים המתקבלים בהתפלגות הם החל מ- a ועד b בקפיצות של אחד. $X \sim U(a, b)$.

פונקציית ההסתברות: $P(X = K) = \frac{1}{b-a+1}$, $K = a, a+1, \dots, b$

תוחלת: $E(X) = \frac{a+b}{2}$

שונות: $V(X) = \frac{(b-a+1)^2 - 1}{12}$

דוגמה (פתרון בהקלטה):

אדם בוחר מספר אקראי בין 1 ל-100 כולל. מהי פונקציית ההסתברות של המספר ומה הצפי שלו?

שאלות:

- (1) במשחק הלוטו 45 כדורים ממוספרים מ-1 ועד 45. נתבונן במשתנה X - המספר של הכדור הראשון שנשלף על ידי המכונה.
- חשבו את $P(X = 2)$.
 - חשבו את $P(X \leq 30)$.
 - חשבו את $P(X > 4 | X \leq 10)$.
 - חשבו את $P(X = k)$.
- (2) קוסם מבקש לבחור מספר שלם אקראי בין 1 ל-100.
- בהנחה שאין כאן מניפולציות של הקוסם, מהי התוחלת ומהי סטיית התקן של המספר שיבחר?
 - הקוסם ביקש משישה אנשים לבחור מספר:
 - מה ההסתברות ששלושה מהם יבחרו מספר הגדול מ-80?
 - מה התוחלת ומהי סטיית התקן של סכום המספרים שהאנשים בחרו?
- (3) יהי X התוצאה בהטלת קובייה.
- מהי ההתפלגות של X ?
 - מה התוחלת של X ?
 - קובייה הוטלה 4 פעמים. מה התוחלת ומה השונות של סכום התוצאות ב-4 ההטלות?
- (4) בכד 10 כדורים שרק אחד בצבע אדום. כדורים הוצאו ללא החזרה עד שהתקבל הכדור האדום. מה התוחלת ומהי השונות של מספר הכדורים שהוצאו?
- (5) יש לבחור מספר אקראי בין 1 ל-50, כולל.
- מה הסיכוי שהמספר 4 יבחר?
 - מה הסיכוי שהמספר שיבחר גדול מ-20?
 - אם נבחר מספר גדול מ-20, מה ההסתברות שהוא קטן מ-28?
- (6) הוכיחו שאם: $X \sim U(a, b)$, אז מתקיים ש: $E(X) = \frac{a+b}{2}$.

תשובות סופיות:

- (1) א. $\frac{1}{45}$ ב. $\frac{30}{45}$ ג. 0.6
- (2) א. תוחלת: 50.5, סטיית תקן: 28.87.
 ב. i. 0.08192 ii. תוחלת: 303, סטיית תקן: 70.71
- (3) א. $X \sim U(1,6)$ ב. 3.5 ג. תוחלת: 14, שונות: 11.66
- (4) תוחלת: 5.5, שונות: 8.25
- (5) א. $\frac{1}{50}$ ב. $\frac{30}{50}$ ג. $\frac{7}{30}$
- (6) שאלת הוכחה.

מבוא להסתברות

פרק 25 - התפלגויות בדידות מיוחדות- התפלגות פואסונית

תוכן העניינים

1. כללי 86

התפלגויות בדידות מיוחדות – התפלגות פואסונית:

רקע:

התפלגות פואסונית היא התפלגות שמאפיינת את מספר האירועים שמתרחשים ביחידת זמן.

λ - פרמטר המאפיין את ההתפלגות הנ"ל. הפרמטר מייצג את קצב האירועים ביחידת זמן. כלומר, כמה אירועים בממוצע קורים ביחידת זמן: $X \sim pois(\lambda)$. התפלגות פואסונית חייבת להופיע כנתון בשאלה ולכן לא יהיה צורך לזהותה.

פונקציית ההסתברות של ההתפלגות הפואסונית נתונה:

$$P(X = K) = \frac{e^{-\lambda} \cdot \lambda^K}{K!}, \quad K = 0, 1, 2, \dots, \infty$$

התוחלת והשונות של ההתפלגות:

$$E(X) = V(X) = \lambda$$

תכונות מיוחדות של ההתפלגות:

- בהתפלגות הזו הפרמטר λ פרופורציונלי לאינטרוול הזמן שעליו דנים.
- אינטרוולי זמן לא חופפים בלתי תלויים זה בזה.

דוגמה (פתרון בהקלטה):

במוקד טלפוני מתקבלות פניות בקצב של 5 פניות לדקה. מספר הפניות בדקה מתפלג פואסונית.

- מה ההסתברות שבדקה כלשהי תתקבל פניה 1?
- מה ההסתברות שבשתי דקות יגיעו 12 פניות?
- מה ההסתברות שבדקה אחת תגיע פניה 1 ובשתי דקות שלאחר מכן 12 פניות?
- מה התוחלת וסטיית התקן של מספר הפניות בדקה?

שאלות:

- (1) במוקד טלפוני מתקבלות פניות בקצב של 5 פניות לדקה. מספר הפניות בדקה מתפלג פואסונית.
- מה ההסתברות שבדקה תתקבל פניה 1?
 - מה ההסתברות שבדקה תתקבל לפחות פניה 1?
 - מה ההסתברות שבדקה יתקבלו לכל היותר 2 פניות?
 - מה שונות מספר הפניות בדקה?
- (2) מספר הטעויות לעמוד בעיתון מתפלג פואסונית עם ממוצע של 4 טעויות לעמוד. בחלק מסוים של עיתון ישנם 5 עמודים.
- מה ההסתברות שבחלק זה ישנן בדיוק 18 טעויות?
 - אם בעמוד הראשון אין טעויות, מה ההסתברות שבסך הכול בכל החלק ישנן 15 טעויות?
 - אם בחלק של העיתון נמצאו בסך הכול 18 טעויות, מה ההסתברות ש-5 מהן בעמוד הראשון?
- (3) מספר תאונות הדרכים הקטלניות במדינת ישראל מתפלג פואסונית עם סטיית תקן של 2 תאונות לשבוע.
- מה תוחלת מספר התאונות בשבוע?
 - מהי ההסתברות שבחודש (הניחו שבחודש יש 4 שבועות) יהיה בדיוק שבוע אחד בו יהיו 3 תאונות דרכים קטלניות?
- (4) לחנות AM:PM השכונתית מספר הלקוחות שנכנסים מתפלג פואסונית עם ממוצע של 2 לקוחות לדקה.
- מה ההסתברות שבדקה כלשהי יהיו בדיוק 3 לקוחות?
 - מה ההסתברות שבדקה כלשהי יגיח לפחות לקוח אחד?
 - מה ההסתברות שבדקה כלשהי יהיו לכל היותר שני לקוחות?
 - מהי התוחלת ומה סטיית התקן של מספר הלקוחות שנכנסים לחנות בדקה?
- (5) מספר הלידות בבית חולים מתפלג פואסונית עם תוחלת של 8 לידות ביום.
- מה ההסתברות שביום א' נולדו 10 תינוקות וביום ב' נולדו 7 תינוקות?
 - מיילדת עובדת במשמרות של 8 שעות. מה ההסתברות שבמשמרת שלה נולדו 3 תינוקות?
 - מהי התוחלת של מספר הימים בשבוע בהם נולדים ביום עשרה תינוקות?

- 6) במערכת אינטרנט לתשלום חשבונות, מספר החשבונות המשולמים בשעה מתפלג פואסונית עם תוחלת של 30.
- א. כמה שעות צפויות לעבור עד אשר תתקבל שעה עם בדיוק 33 חשבונות?
- ב. בין השעה 08:00 ל-08:20 היו 18 חשבונות, מה ההסתברות שבין 08:00 ל-08:10 היו בדיוק 6 חשבונות?

תשובות סופיות:

- | | | | |
|--------------|-----------|-----------|------------------------------|
| 1) א. 0.0337 | ב. 0.9933 | ג. 0.1246 | ד. 0.5 |
| 2) א. 0.084 | ב. 0.099 | ג. 0.151 | |
| 3) א. 4 | ב. 0.407 | | |
| 4) א. 0.1804 | ב. 0.8647 | ג. 0.6767 | ד. תוחלת: 2, סטיית תקן: 1.41 |
| 5) א. 0.0139 | ב. 0.2196 | ג. 0.6948 | |
| 6) א. 16.7 | ב. 0.0708 | | |

מבוא להסתברות

פרק 26 - התפלגויות בדידות מיוחדות-התפלגות היפרגאומטרית

תוכן העניינים

1. כללי 89

התפלגויות בדידות מיוחדות – התפלגות היפרגאומטרית:

רקע:

נתונה אוכלוסייה המכילה N פריטים, מתוכם D פריטים בעלי תכונה מסוימת – פריטים אלה נקראים "מיוחדים". בוחרים מאותה אוכלוסייה n פריטים ללא החזרה. X מוגדר להיות מספר הפריטים ה"מיוחדים" שנדגמו. משתנה מקרי היפרגאומטרי עם הפרמטרים (N, D, n) יסומן על ידי: $X \sim H(N, D, n)$.

$$P(X = k) = \frac{\binom{D}{k} \binom{N-D}{n-k}}{\binom{N}{n}} \quad \text{פונקציית ההסתברות של ההתפלגות:}$$

$$E(X) = n \cdot \frac{D}{N} \quad \text{התוחלת של ההתפלגות:}$$

$$V(X) = n \cdot \frac{D}{N} \cdot \left(1 - \frac{D}{N}\right) \cdot \frac{N-n}{N-1} \quad \text{השונות של ההתפלגות:}$$

דוגמה (הפתרון בהקלטה):

בכתה 40 תלמידים, שמתוכם 10 בנות והשאר בנים. בוחרים קבוצה של ארבעה תלמידים שיסעו למשלחת.

- א. כיצד מספר הבנים במשלחת מתפלג?
- ב. מה התוחלת ומהי השונות של מספר הבנים במשלחת?
- ג. מה הסיכוי שבמשלחת יהיו 3 בנים?

שאלות:

- (1) כבד 5 כדורים אדומים ו-4 כדורים ירוקים. מוציאים באקראי שלושה כדורים מהכד. כדורים מהכד.
- א. בנו את פונקציית ההסתברות של מספר הכדורים האדומים שהוצא בטבלה.
 ב. חשבו את התוחלת והשונות של מספר הכדורים האדומים שהוצאו, פעם מתוך פונקציית ההסתברות ופעם מתוך הנוסחאות להתפלגות היפרגאומטרית.
 ג. מה הייתה התוחלת והשונות של מספר הכדורים האדומים אם ההוצאה הייתה עם החזרה?
- (2) בחידון 10 שאלות משלושה תחומים שונים: 3 בתחום הספורט, 4 בתחום הבידור והיתר בתחום המדעים. משתתף בחידון שולף באקראי 4 שאלות.
 נגדיר את X להיות מספר השאלות מתחום הספורט שנשלפו.
 א. בנו את פונקציית ההסתברות של X בנוסחה (לא בטבלה).
 ב. מה התוחלת וסטיית התקן של X ?
 ג. חשבו את ההסתברות הבאה: $P(X = 2 | X > 1)$.
- (3) נדגמו 6 אנשים מתוך אוכלוסייה שבה 60% בעלי רישיון נהיגה. אנו מתעניינים במספר האנשים שנדגמו עם רישיון נהיגה. זהו בסעיפים הבאים את ההתפלגות, וחשבו לכל התפלגות את התוחלת והשונות:
 א. האוכלוסייה גדולה מאד.
 ב. האוכלוסייה בת 10 אנשים.
- (4) בארגון עובדים 7 מהנדסים, 3 טכנאים ו-5 הנדסאים. בוחרים באופן מקרי משלחת של 4 עובדים לכנס במדריד.
 א. מהי ההסתברות שייבחרו רק מהנדסים?
 ב. מה תוחלת מספר הטכנאים שייבחרו?

תשובות סופיות:

1) א. ב. תוחלת: $1\frac{2}{3}$, שונות: $\frac{5}{9}$.

3	2	1	0	x
$\frac{10}{84}$	$\frac{40}{84}$	$\frac{30}{84}$	$\frac{4}{84}$	$P(x)$

ג. תוחלת: $1\frac{2}{3}$, שונות: $\frac{20}{27}$.

2) א. $\frac{\binom{3}{k} \cdot \binom{7}{4-k}}{\binom{10}{4}}$. ב. תוחלת: 1.5, סטיית תקן: 0.748. ג. 0.9.

3) א. תוחלת: 3.6, שונות: 1.44. ב. תוחלת: 3.6, שונות: 0.64.

4) א. 0.0256. ב. 0.8.

מבוא להסתברות

פרק 27 - התפלגויות בדידות מיוחדות - התפלגות בינומית שלילית

תוכן העניינים

1. כללי 92

התפלגויות בדידות מיוחדות – התפלגות בינומית שלילית:

רקע:

בהתפלגות זו חוזרים על אותו ניסוי ברנולי בזה אחר זה באופן בלתי תלוי עד אשר מצליחים בפעם ה- r . $X =$ מספר החזרות עד שהתקבלו r הצלחות: $X \sim NB(r, p)$.

פונקציית ההסתברות: $P(X = k) = \binom{k-1}{r-1} p^r (1-p)^{k-r}$, $k = r, r+1, \dots, \infty$

תוחלת: $E(X) = \frac{r}{p}$

שונות: $V(X) = \frac{r(1-p)}{p^2}$

דוגמה (פתרון בהקלטה):

קובייה מוטלת עד שמקבלים 3 פעמים תוצאה שגדולה מ-4.

א. מה הסיכוי להטיל את הקובייה 6 פעמים?

ב. מה תוחלת ושונות מספר הפעמים שנטיל את הקובייה?

שאלות:

- (1) בכד 4 כדורים שחורים ו-6 כדורים לבנים. כדור מוצא באקראי פעם אחר פעם ומוחזר בין הוצאה להוצאה. נסמן ב- X את מספר הכדורים שהוצאו עד שהתקבלו 2 כדורים לבנים בסך הכול (לא בהכרח ברצף).
- חשבו את $P(X = 2)$.
 - חשבו את $P(X = 3)$.
 - חשבו את $P(X = 4)$.
 - חשבו את $P(X = k)$.
- (2) הסיכוי לזכות במשחק מזל הוא 0.4. אדם משחק במשחק ומפסיק ברגע שהוא ניצח פעמיים (לא בהכרח ברצף).
- מה הסיכוי שישחק פעמיים?
 - מה הסיכוי שישחק 3 פעמים?
 - מה הסיכוי שישחק 4 פעמים?
 - מה הסיכוי שישחק 5 פעמים?
 - מה הסיכוי שישחק k פעמים?
- (3) הראו שההתפלגות הגאומטרית היא מקרה פרטי של ההתפלגות הבינומית השלילית.
- (4) מטבע מוטל שוב ושוב עד שמתקבל שלוש פעמים עץ בסך הכול.
- בנו את פונקציית ההסתברות של מספר ההטלות הכולל.
 - מהי התוחלת ומהי השונות של מספר ההטלות הכולל?
 - חוזרים על התהליך שלעיל 5 פעמים. מה ההסתברות שפעמיים מתוך ה-5 חזרות נאלץ להטיל את המטבע בדיוק 4 פעמים?
- (5) יהיה X_i מספר החזרות עד ההצלחה הראשונה בניסיונות ברנוליים בלתי תלויים זה בזה, כאשר $i = 1, 2, \dots, n$.
- הוכיחו שהתוחלת והשונות של $\sum_{i=1}^n X_i$ זהות לתוחלת והשונות של ההתפלגות הבינומית השלילית $NB(n, p)$.

תשובות סופיות:

- (1) א. 0.36 ב. 0.288 ג. 0.0576 ד. $0.6^2 \cdot 0.4^{k-2}$
- (2) א. 0.16 ב. 0.192 ג. 0.1728 ד. 0.13824 ה. $0.4^2 \cdot 0.6^{k-2}$
- (3) שאלת הוכחה.
- (4) ב. תוחלת: 6, שונות: 6. ג. 0.1886
- (5) שאלת הוכחה.

מבוא להסתברות

פרק 28 - המשתנה המקרי הברידי - שאלות מסכמות

תוכן העניינים

1. כללי 95

המשתנה המקרי הבדיד – שאלות מסכמות:

שאלות:

(1) נתון כי: $X \sim B\left(4, \frac{1}{2}\right)$, $Y \sim B\left(10, \frac{1}{4}\right)$.

- א. חשבו את התוחלת וסטיית התקן של X .
- ב. $W = 2X - 4$, חשבו את התוחלת וסטיית התקן של W .
- ג. $T = X + Y$, חשבו את התוחלת של T .
- האם ניתן לדעת מה סטיית התקן של T ?
- (2) ערן משחק בקזינו בשתי מכונות הימורים, בכל מכונה משחק אחד (במכונה א' ובמכונה ב'). הסיכוי שלו לנצח במשחק במכונה א' הינו 0.08 והסיכוי שלו לנצח רק במכונה א' הינו 0.05. הסיכוי שלו להפסיד בשני המשחקים ביום מסוים הוא 0.88.

- א. מה הסיכוי שערן ניצח בשני המשחקים?
- ב. מה התוחלת ומהי השונות של מספר הניצחונות של ערן?
- ג. אם ערן נכנס לקזינו 5 פעמים ובכל פעם שיחק את שני המשחקים, מה ההסתברות שערן ינצח בשני המשחקים בדיוק פעם אחת מתוך חמשת הפעמים?
- (3) לאדם צרור מפתחות. בצרור 5 מפתחות אשר רק אחד מתאים לדלת של ביתו. האדם מנסה את המפתחות באופן מקרי. לאחר שניסה מפתח מסוים הוא מוציא אותו מהצרור כדי לא להשתמש בו שוב. נסמן ב- X את מספר הניסיונות עד שהדלת תפתח.
- א. בנו את פונקציית ההסתברות של X .
- ב. חשבו את התוחלת והשונות של X .
- ג. כל ניסיון לפתוח הדלת אורך חצי דקה. מה התוחלת ומה השונות של הזמן הכולל לפתיחת הדלת?

- (4) מספר התקלות בשידור "ערוץ 1" מתפלג פואסונית בקצב של 6 תקלות ביום.
- א. מה ההסתברות שביום מסוים הייתה לפחות תקלה אחת?
- ב. מה ההסתברות שבשבוע (7 ימי שידור) יהיו בדיוק 6 ימים בהם לפחות תקלה אחת?
- ג. מה תוחלת מספר הימים שיעברו מהיום ועד היום הראשון בו לפחות תהיה תקלה אחת?

- (5) בעל חנות גדולה בקניון שם לב ש-40% מהמוצרים בחנותו נרכשים עבור ילדים, 35% נרכשים עבור נשים ו-25% נרכשים עבור גברים. 10% מהמוצרים הנרכשים עבור ילדים הם מתוצרת חוץ, וכך גם 60% מהמוצרים הנרכשים עבור נשים ו-50% מאלה הנרכשים עבור גברים.
- מה ההסתברות למכור בחנות זו מוצר מתוצרת חוץ?
 - יהי X מספר המוצרים שימכרו בחנות זו מפתחתה ביום א' בבוקר, עד שלראשונה יימכר מוצר מתוצרת הארץ (כולל). מהי פונקציית ההסתברות של X ?
 - מהי תוחלת מס' המוצרים מתוצרת חוץ שימכרו, עד שלראשונה יימכר מוצר מתוצרת הארץ?
 - ביום ב' נמכרו בחנות 7 מוצרים. מה ההסתברות שבדיוק 3 מהם הם מתוצרת חוץ?
- (6) חברת הפקות של סרטים הפיקה 3 סרטים, אשר הופקו לטלוויזיה המקומית. חברת ההפקות מנסה למכור את הסרטים הללו לחו"ל. להלן ההסתברויות למכירת הסרטים לחו"ל:
- הסרט "הצב" יימכר לחו"ל בסיכוי של 0.6.
 - הסרט "לעולם לא" יימכר לחו"ל בסיכוי של 0.7.
 - הסרט "מוות פתאומי" יימכר לחו"ל בסיכוי של 0.2.
- ידוע כי כל סרט עלה להפקה חצי מיליון שקלים. כמו כן, כל סרט הביא להכנסה של 200,000 שקלים מהטלוויזיה המקומית. במידה וסרט יימכר לחו"ל, כל סרט יימכר ב-600,000 שקלים.
- בנו את פונקציית ההסתברות של מספר הסרטים שיימכרו לחו"ל.
 - מהי התוחלת והשונות של מספר הסרטים שיימכרו?
 - מהי התוחלת ומהי סטיית התקן של הרווח (במאות אלפי שקלים) של חברת ההפקה?
- (7) במפעל מייצרים סוכריות כך ש-20% מהסוכריות בטעם תות. הייצור הוא ייצור המוני. שאר הסוכריות בטעמים שונים, השקיות נארזות ובכל שקית בדיוק 5 סוכריות.
- נבחרה שקית ונתון שבשקית פחות מ-3 סוכריות אדומות. מה ההסתברות שבשקית סוכריה אדומה אחת?
 - בוחרים באקראי שקית אחר שקית, במטרה למצוא שקית ללא סוכריות אדומות. מה ההסתברות שייאלצו לדגום יותר מ-6 שקיות?

8) מבחן בנוי משני חלקים: בחלק א' 10 שאלות ובחלק ב' 10 שאלות. תלמיד התכוון רק לחלק א' של המבחן ובחלק זה בכל שאלה יש סיכוי של 0.8 שיענה נכון, בחלק השני לכל שאלה יש 4 תשובות כשרק אחת נכונה. בחלק זה הוא מנחש את התשובות.

- מהי ההסתברות שבחלק הראשון הוא יענה נכון על 7 שאלות בדיוק?
- מהי ההסתברות שבחלק השני הוא יענה נכון על פחות מ-3 שאלות?
- מה התוחלת ומהי השונות של מספר התשובות הנכונות בחלק הראשון?
- מהי התוחלת ומהי השונות של מספר התשובות הנכונות בבחינה כולה?

9) יהי X משתנה מקרי המקיים: $E(X) = 2$ וכן: $V(X) = 1$.

חשבו: $E(X - 5)^2$.

10) הסיכוי לעבור מבחן נהיגה הינו P . בוחרים באקראי ארבעה נבחנים.

ההסתברות ששניים מהם יעברו את מבחן הנהיגה גבוה פי $\frac{8}{3}$ מהסיכוי שכל

הארבעה יעברו את המבחן.

א. חשבו את ערכו של P .

ב. תלמיד ניגש לבחינה עד אשר הוא עובר אותה.

מה ההסתברות שיעבור את מבחן הנהיגה רק במבחן הרביעי?

ג. מה ההסתברות שיאלץ לגשת לפחות לחמישה מבחנים בסך הכול?

ד. מה התוחלת ומהי השונות של מספר המבחנים שבהם יכשל?

ה. ידוע שהתלמיד ניגש לשלושה מבחנים ועדיין לא עבר. מה ההסתברות שבסופו של דבר יעבור במבחן הנהיגה החמישי?

11) רובוט נמצא בנקודה 0 על ציר המספרים. הרובוט מבצע n צעדים ובכל צעד

הוא נע בסיכוי P . ימינה ביחידה אחת ובסיכוי $1 - P$ שמאלה ביחידה אחת.

נסמן ב- X את המספר עליו עומד הרובוט לאחר n צעדים.

רשמו את פונקציית ההסתברות של X באמצעות P ו- n .

12) למטבע יש סיכוי P לקבל את התוצאה ראש. מטילים את המטבע. אם יוצא

ראש בפעם הראשונה מפסידים שקל ומפסיקים את המשחק. אחרת,

ממשיכים לזרוק וזוכים במספר שקלים לפי מספר הפעמים שהטלנו את

המטבע מההתחלה ועד שהתקבל ראש.

א. בנו את פונקציית ההסתברות של רווח המשחק (באמצעות P).

ב. בטאו את תוחלת הרווח באמצעות P .

ג. לאלו ערכי P המשחק כדאי?

- 13** מטבע הוגן מוטל עד שמתקבל $m+1$ פעמים עץ. רשמו את פונקציית ההסתברות של מספר הפעמים שהתקבל פלי.
- 14** נתונות N מגירות ממוספרות מ-1 ועד N . מתוך n חולצות, יש לבחור באופן אקראי לכל חולצה מגירה. כל מגירה יכולה להכיל את כל החולצות. נגדיר את X_1 - כמספר החולצות שהונחו במגירה מספר 1. נגדיר את X_N - כמספר החולצות שהונחו במגירה מספר N . חשבו את: $V(X_1 + X_N)$.
- 15** n אנשים יושבים במסעדה. בזמן שמגיע העת לשלם, האנשים פועלים לפי העיקרון הבא: כל אחד מהם מטיל מטבע הוגן עד אשר אחד מהם מקבל תוצאה שונה מכל השאר והוא זה שמשלם. מהי תוחלת מספר הסבבים שיבוצעו עד שימצא משלם?
- 16** הסיכוי לעבור בקורס מסוים את מועד א' הוא 0.7. סטודנט שנכשל במועד א' בהכרח ניגש למועד ב' ואז הסיכוי שלו לעבור אותו הוא 0.8. אם סטודנט נכשל במועד ב' הוא ניגש למועד מיוחד ואחרון. נתון שלמועד א' נגשו כל 20 הסטודנטים הרשומים לקורס. מהי התפלגות מספר הבחינות שיאלץ המרצה לחבר?
- 17** לקניון 3 כניסות שונות. בכל כניסה מספר האנשים שנכנסים לקניון מתפלג פואסונית באופן בלתי תלוי בכניסה האחרת. מספר האנשים שנכנסים בכניסה ה- i מתפלג פואסונית עם קצב של i אנשים בשנייה. יהי Y מספר האנשים שנכנסים לקניון בשנייה מכל הכניסות יחדיו. מצאו את: $E\left[\frac{1}{Y+1}\right]$.
- 18** לרני 20 טושים אותם הוא מכניס באקראי ל-3 קלמרים. לכל טוש נבחר קלמר באקראי ובאופן בלתי תלוי בטוש אחר. כל קלמר יכול להכיל עד 20 טושים. נסמן ב- X את מספר הקלמרים שיש בהם בדיוק 10 טושים. חשבו את $E(\sqrt{x+7})$.

19) בשדרות רוטשילד החליטו לשתול n ברושים ו-2 אורנים אחד אחרי השני בשורה. סידור העצים בשורה נעשה באקראי. נגדיר את X להיות מספר הברושים, בין הברוש הגבוה ביותר לברוש הנמוך ביותר שנשתלו.

א. מצאו את ההתפלגות של X .

ב. הוכיחו שהתוחלת של X היא $\frac{n-2}{3}$.

תשובות סופיות:

1. א. תוחלת: 2, סטיית תקן: 1. ב. תוחלת: 0, סטיית תקן: 2.
2. א. 0.03 ב. תוחלת: 0.15, שונות: 0.1875.
3. א. ראו טבלה: ב. תוחלת: 3, שונות: 2.

5	4	3	2	1	x
0.2	0.2	0.2	0.2	0.2	$P(x)$

- ג. תוחלת: 1.5, שונות: 0.5.
4. א. 0.9975 ב. 0.0172 ג. 1.0025
5. א. 0.375 ב. 0.6
6. א. ראו טבלה: ב. תוחלת: 1.5, שונות: 0.61.

3	2	1	0	x
0.084	0.428	0.392	0.092	$P(x)$

- ג. תוחלת: 0, סטיית תקן: 4.68.
7. א. 0.4348 ב. 0.0923
8. א. 2.013 ב. 0.5256 ג. תוחלת: 8, שונות: 1.6.
- ד. תוחלת: 10.5, שונות: 3.475.
9. 10.
10. א. 0.6 ב. 0.0384 ג. 0.0256 ד. תוחלת: 0.67, שונות: 1.11 ה. 0.24

$$P(X = k) = \binom{n}{k+n} \cdot p^{\frac{k+n}{2}} \cdot (1-p)^{\frac{n-k}{2}} \quad (11)$$

$$P(X = k) = \begin{cases} P & k = -1 \\ (1-P)^{k-1} \cdot P & k = 2, 3, \dots, \infty \end{cases} \quad (12)$$

$$0 < p < \sqrt{\frac{1}{2}} \quad \text{ג.}$$

$$. P(X = k) = \binom{m+k}{m} \cdot \left(\frac{1}{2}\right)^{k+m+1}, k = 0, 1, \dots, \infty \quad (13)$$

$$. n \cdot \left(\frac{2}{N}\right) \cdot \left(1 - \frac{2}{N}\right) \quad (14)$$

$$. \frac{2^n}{2n} \quad (15)$$

(16) ראו טבלה :

3	2	1	X
0.7099	0.2893	0.0008	P(X)

$$. \frac{e^{-6}}{6} [e^6 - 1] \quad (17)$$

$$. 2.675 \quad (18)$$

$$. P(X = k) = \frac{n-k-1}{\binom{n}{2}}, k = 0, 1, \dots, n-2. \quad (19)$$

א. ב. הוכחה.

מבוא להסתברות

פרק 29 - המשתנה המקרי הרציף - התפלגויות כלליות ללא אינטגרלים

תוכן העניינים

102 1. כללי

המשתנה המקרי הרציף – התפלגויות כלליות ללא אינטגרלים:

רקע:

בפרק זה נעסוק בהתפלגות של משתנים מקריים רציפים (גובה אדם אקראי, זמן תגובה וכו').

משתנים רציפים הם משתנים שבתחום מסוים מקבלים רצף אינסופי של ערכים אפשריים בניגוד למשתנים בדידים.

נתאר את המשתנה המקרי הרציף על ידי פונקציה הנקראת פונקציית צפיפות. באופן כללי נסמן פונקציית צפיפות של משתנה רציף כלשהו ב- $f(x)$.

השטח שמתחת לפונקציית הצפיפות נותן את ההסתברות.

פונקציית צפיפות חייבת להיות לא שלילית והשטח הכולל שמתחת לפונקציה יהיה תמיד 1.

בקורס הנוכחי לא נבצע אינטגרציה כדי לחשב את השטחים, אלא נשתמש בצורות הנדסיות מקובלות.

ריענון מתמטי:

נוסחאות לחישוב שטחים:

שטח משולש: גובה (h) כפול הבסיס (a) חלקי 2: $S_{triangle} = \frac{h \cdot a}{2}$.

שטח מלבן: אורך (a) כפול רוחב (b): $S_{rectangle} = a \cdot b$.

משוואת קו ישר:

$$y = mx + n$$

- m שיפוע.

- n נקודת החיתוך עם ציר ה- y .

שיפוע של ישר העובר דרך שתי נקודות: $(X_1, Y_1), (X_2, Y_2)$: $m = \frac{Y_2 - Y_1}{X_2 - X_1}$.

משוואת ישר שעובר דרך נקודה ספציפית (X_1, Y_1) ושיפועו ידוע m :

$$y - Y_1 = m(x - X_1)$$

פונקציית התפלגות מצטברת:

היא פונקציה הנונתת במשתנה רציף את הסיכוי ליפול מתחת לערך מסוים:

$$F(t) = p(X \leq t)$$

כמו כן:

$$p(a < X < b) = F(b) - F(a) \quad p(X > t) = 1 - F(t)$$

אחוזונים:

האחוזון ה- P הוא ערך (נסמן אותו: x_p) שהסיכוי ליפול מתחתיו הוא P .

$$p(X \leq x_p) = p$$

כלומר:

דוגמה (פתרון בהקלטה):

בשרטוט שלפניכם נתונה פונקציית הצפיפות של המשתנה X .

X הינו זמן ההמתנה למענה קולי בדקות.

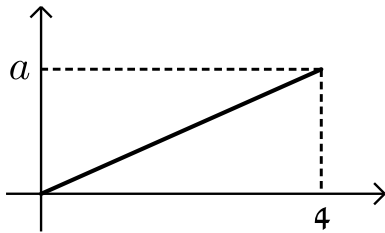
א. מצאו את ערכו של a .

ב. רשום את נוסחת פונקציית הצפיפות.

ג. חשבו את הסיכוי שזמן ההמתנה נמוך מ-2 דקות.

ד. בנו את פונקציית ההתפלגות המצטברת.

ה. מהו האחוזון ה-80 של ההתפלגות?



תשובות:

$$S_{\Delta} = \frac{a \cdot h}{2} = \frac{4 \cdot a}{2} = 2a$$

א. $2a = 1 \rightarrow a = \frac{1}{2}$

$$f(x) = \begin{cases} \frac{1}{8} \cdot x & 0 \leq x \leq 4 \\ 0 & \text{זחרת} \end{cases}$$

ב.

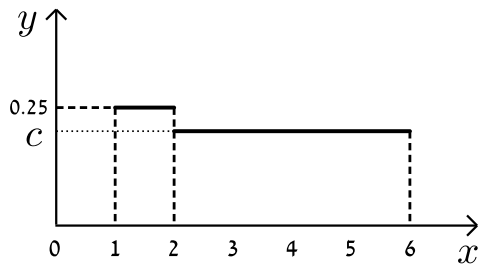
$$p(x < 2) = \frac{2 \cdot \frac{1}{4}}{2} = \frac{1}{4} = p(x \leq 2) \quad \text{ג.}$$

$$p(x \leq t) = f(t) = \begin{cases} 0 & t < 0 \\ \frac{t \cdot \frac{t}{8}}{2} = \frac{t^2}{16} & 0 \leq t \leq 4 \\ 1 & t > 4 \end{cases} \quad \text{ד.}$$

$$p(x < 2) = f(2) = \frac{2^2}{16} = \frac{1}{4} \quad \text{ה.}$$

שאלות:

(1) X הינו משתנה רציף עם פונקציית צפיפות כמוצג בשרטוט:



א. מצא את ערכו של c .

ב. בנה את פונקציית ההתפלגות המצטברת.

ג. חשבו את ההסתברויות הבאות:

i. $P(x < 4)$

ii. $P(x > 1.5)$

iii. $P(1.5 < x < 5)$

iv. $P(5 < x < 10)$

ד. מצא את החציון של המשתנה.

(2) נתון משתנה מקרי רציף X שפונקציית הצפיפות שלו היא:

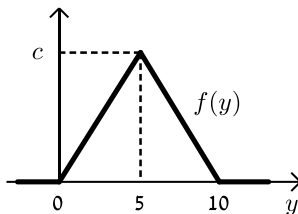
$$f(x) = \begin{cases} cx & 0 \leq x \leq b \\ 0 & \text{אחרת} \end{cases}$$

ידוע ש- $P(0 < X < 1) = \frac{1}{4}$

א. מצאו במפורש את פונקציית הצפיפות של X .

ב. מצאו את החציון של X .

ג. מה הסיכוי ש- X קטן מ-0.5?



(3) נתונה פונקציית צפיפות של משתנה מקרי Y :

א. מצאו את c .

ב. מצאו את פונקציית ההתפלגות המצטברת של Y .

ג. חשבו את ההסתברויות:

i. $P(Y = 7.0)$

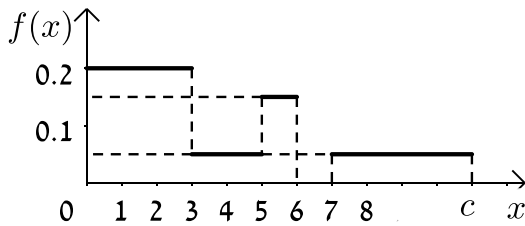
ii. $P(Y \leq 3.0)$

iii. $P(7.5 \leq Y \leq 15.5)$

iv. $P(Y > 4)$

ד. מצאו את העשירון התחתון: $y_{0.1}$, הרבעון התחתון: $y_{0.25}$ והחציון של Y .

הסיקו מהו העשירון עליון: $y_{0.9}$.

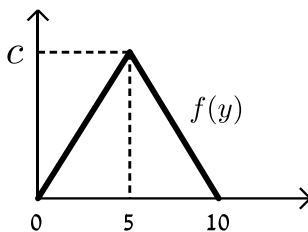


4) נתונה פונקציית צפיפות של משתנה מקרי X :

- א. מצאו ערך c שעבורו תתקבל פונקציית צפיפות.
 ב. מצאו את פונקציית ההתפלגות המצטברת.

ג. חשבו את ההסתברויות הבאות:

$$P(1.0 < X \leq 5.0), P(X \geq -2.0), P(X \geq 4)$$



5) נתונה פונקציית הצפיפות הבאה:

- א. מה ערכו של c ?
 ב. מצא אינטרוול (תחום) סימטרי סביב הערך 5 שהסיכוי ליפול בו הינו $\frac{1}{2}$.

6) זמן ההמתנה בדקות של לקוח בתור למכולת השכונתית מתפלג עם פונקציית ההתפלגות המצטברת הבאה: $F(t) = 1 - e^{-0.2t}$.

- א. מה הסיכוי שזמן ההמתנה יהיה לפחות רבע שעה?
 ב. אם חיכיתי בתור 10 דקות מה ההסתברות שאאלץ לחכות בסך הכל פחות מרבע שעה?
 ג. מה הזמן ש-90% מהלקוחות מחכים מתחתיו?

תשובות סופיות:

$$f(t) = \begin{cases} 0 & t > 1 \\ (t-1) \cdot 0.25 & 1 \leq t \leq 2 \\ 0.25 + (t-2) \cdot \frac{3}{16} & 2 < t \leq 6 \\ 1 & t > 6 \end{cases} \quad \text{ב.} \quad \text{א.} \quad \frac{3}{16} \quad (1)$$

$$f(x) = \begin{cases} \frac{1}{2} \cdot x & 0 \leq x \leq 2 \\ 0 & \text{חרת} \end{cases} \quad \text{א.} \quad (2)$$

.1.41 ב. .3 $\frac{1}{3}$ ד. . $\frac{3}{16}$ iv. . $\frac{11}{16}$ iii. . $\frac{7}{8}$ ii.

$$f(t) = p(y \leq t) = \begin{cases} 0 & t < 0 \\ \frac{t \cdot 0.04t}{2} = 0.02t^2 & 0 \leq t \leq 5 \\ 1 - \frac{(10-t)(-0.04(t-10))}{2} = 1 - 0.02(t-10)^2 & 5 < t \leq 10 \\ 1 & t > 10 \end{cases} \quad \text{ב.} \quad \text{א.} \quad 0.2 \quad (3)$$

.0.32 iv. .0.125 iii. .0.18 ii. .0 i. ג.
 $Y_{0.1} = 2.24, Y_{0.25} = 3.54, Y_{0.9} = 7.76, Y_{0.5} = 5$ ד.

$$f(t) = \begin{cases} 0 & t < 0 \\ 0.2t & 0 < t \leq 3 \\ 0.6 + (t-3) \cdot 0.05 & 3 < t \leq 5 \\ 0.7 + (t-5) \cdot 0.15 & 5 < t \leq 6 \\ 0.85 & 6 < t \leq 7 \\ 0.85 + (t-7) \cdot 0.05 & 7 < t \leq 10 \\ 1 & t > 10 \end{cases} \quad \text{ב.} \quad \text{א.} \quad 0.10 \quad (4)$$

ג. $P(x \geq 4) = 0.35, P(x \geq -2) = 1, P(1 < x < 5) = 0.5$

ב. $.5 \pm 1.46$ א. 0.2 (5)

ג. 0.115.13 ב. 0.6321 א. 0.0498 (6)

מבוא להסתברות

פרק 30 - התפלגויות רציפות מיוחדות- התפלגות מעריכית

תוכן העניינים

108 1. כללי

התפלגויות רציפות מיוחדות – התפלגות מעריכית:

רקע:

התפלגות זו היא התפלגות רציפה המאפיינת את הזמן עד להתרחשות מאורע מסוים. λ - הוא ממוצע מספר האירועים המתרחשים ביחידת זמן (אותו פרמטר מההתפלגות הפואסונית): $X \sim \exp(\lambda)$ כאשר $\lambda > 0$.

התפלגות זו צריכה להיות נתונה בתרגיל או שיאמר שמספר האירועים ביחידת זמן מתפלג פואסונית ואז הזמן עד להתרחשות המאורע הבא מתפלג מעריכית.

פונקציית הצפיפות של ההתפלגות:

$$f(x) = \lambda e^{-\lambda x} \quad \text{לכל } x \geq 0.$$

פונקציית ההתפלגות המצטברת: $F(t) = p(x \leq t) = 1 - e^{-\lambda t}$.

$$\text{התוחלת: } E(x) = \frac{1}{\lambda}$$

$$\text{השונות: } V(x) = \frac{1}{\lambda^2}$$

להתפלגות זו יש תכונת חוסר הזיכרון: $P(X > a+b \mid X > a) = P(X > b)$.

דוגמה (פתרון בהקלטה):

אורך חיי סוללה מתפלג מעריכית עם תוחלת של 8 שעות.

א. מה ההסתברות שסוללה תחזיק מעמד פחות מ-9 שעות?

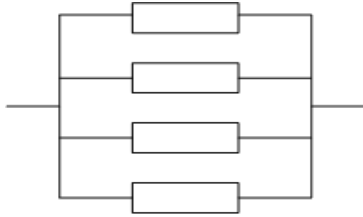
ב. מה סטיית התקן של אורך חיי הסוללה?

ג. אם סוללה כבר חייה מעל שעתיים, מה הסיכוי שהיא תחייה מעל 7 שעות בסך הכול?

שאלות:

- (1) הזמן שלוקח במערכת עד שתקלה מתרחשת מתפלג מעריכית עם תוחלת של 0.5 שעה.
- מה הסתברות שהתקלה הבאה תתרחש תוך יותר מ-0.5 שעה?
 - מה ההסתברות שהתקלה הבאה תתרחש תוך פחות משעה?
 - מצא את הזמן החציוני להתרחשות תקלה במערכת.
- (2) הזמן שעובר בכביש מסוים עד להתרחשות תאונה מתפלג מעריכית עם תוחלת של 24 שעות.
- מהי סטית התקן של הזמן עד להתרחשות תאונה?
 - מה ההסתברות שהתאונה הבאה תתרחש תוך פחות מיממה?
 - מהי ההסתברות שהתאונה הבאה תתרחש תוך לפחות יומיים?
- (3) משך הזמן X (בדקות) שסטודנטים עובדים רצוף על מחשב מתפלג מעריכית עם תוחלת של 30 דקות.
- מה הסיכוי שעבודת סטודנט על המחשב תארך פחות מרבע שעה?
 - מה הסיכוי שעבודת סטודנט על המחשב תארך בין רבע שעה לחצי שעה?
 - אם סטודנט עובד על המחשב כבר יותר מ-10 דקות, מה ההסתברות שמשך כל עבודתו יעלה על 30 דקות?
 - מהו הזמן שבסיכוי של 90% הסטודנט יעבוד פחות ממנו?
- (4) בממוצע מגיעים לחדר מיון 4 חולים בשעה בזרם פואסוני.
- שולה המזכירה הגיעה לחדר המיון. מה ההסתברות שזמן ההמתנה שלה לחולה הבא יהיה יותר מ-20 דקות?
 - אם שולה המתינה יותר מרבע שעה לחולה הבא. מה ההסתברות שתמתין בסך הכל יותר מחצי שעה?
 - מה ההסתברות שבין החולה הראשון לשני יש להמתין יותר מרבע שעה ובין החולה שני לשלישי יש להמתין פחות מרבע שעה?

5) מערכת חשמלית כוללת 4 רכיבים אלקטרוניים זהים הפועלים במקביל כמתואר בשרטוט:



על מנת שהמערכת תפעל בצורה תקינה נדרש שלפחות אחד מהמרכיבים יהיה תקין. אורך החיים של כל רכיב מתפלג מעריכית עם ממוצע של 100 שעות.

א. מה ההסתברות שהמערכת תפעל בצורה תקינה במשך 100 שעות לפחות?

ב. מעוניינים להוסיף במקביל עוד רכיב למערכת.

עלות הוספת רכיב היא K ₪.

כמו כן אם המערכת עבדה פחות מ-100 שעות

נגרם הפסד של A ₪.

מה התנאי שבו יהיה כדאי להוסיף את הרכיב למערכת?

תשובות סופיות:

- | | | |
|----------------|------------------|----------|
| 1) א. 0.368 | ב. 0.865 | ג. 0.347 |
| 2) א. 24 שעות. | ב. 0.632 | ג. 0.135 |
| 3) א. 0.393 | ב. 0.239 | ג. 0.513 |
| 4) א. 0.264 | ב. 0.368 | ג. 0.233 |
| 5) א. 0.8403 | ב. $K < 0.0588A$ | ד. 69.08 |

מבוא להסתברות

פרק 31 - התפלגויות רציפות מיוחדות-התפלגות אחידה

תוכן העניינים

1. כללי 111

התפלגויות רציפות מיוחדות – התפלגות אחידה:

רקע:

זו התפלגות שפונקציית הצפיפות שלה קבועה בין a לבין b .

$$. X \sim U(a, b)$$

פונקציית הצפיפות:

$$. f(x) = \frac{1}{b-a}$$

$$a \leq x \leq b$$

פונקציית ההתפלגות המצטברת:

$$. F(t) = \frac{t-a}{b-a}$$

התוחלת :

$$. E(X) = \frac{a+b}{2}$$

השונות:

$$. V(x) = \frac{(b-a)^2}{12}$$

דוגמה (פתרון בהקלטה):

X - משתנה מקרי רציף המתפלג באופן אחיד בין 20 ל-40.

מה הסיכוי ש- X קטן מ-25?

מה התוחלת והשונות של X ?

$$a = 20, b = 40$$

$$X \sim U(20, 40)$$

$$\text{א. } P(x < 25) = f(25) = \frac{25-20}{40-20} = 0.25$$

$$E(x) = \frac{20+40}{2} = 30$$

$$\text{ב. } V(x) = \frac{(40-20)^2}{12} = 33\frac{1}{3}$$

שאלות:

- (1) משך (בדקות) הפסקה בשיעור, X , מתפלג: $U(13,16)$.
- מהי התוחלת ומהי סטיית התקן של משך ההפסקה?
 - מהי ההסתברות שהפסקה תמשך יותר מ-15 דקות?
 - מהי ההסתברות שמשך ההפסקה יסטה מהתוחלת בפחות מדקה?
- (2) רכבת מגיעה לתחנה בשעות היום כל עשר דקות. אדם הגיע לתחנה בזמן אקראי.
- הסבר כיצד מתפלג זמן ההמתנה לרכבת?
 - אם זמן ההמתנה לרכבת ארך יותר מ-5 דקות, מהי ההסתברות שבסך הכל האדם ימתין לרכבת פחות מ-8 דקות?
 - מה תוחלת מספר הימים שיעברו עד הפעם הראשונה שהאדם ימתין לרכבת יותר מ-9 דקות?
- (3) מכונה אוטומטית ממלאת גביעי גלידה. משקל הגלידה לגביע מתפלג אחיד בין 100-110 גרם (המשקל הוא של גלידה ללא הגביע).
- מה ההסתברות שמשקל הגלידה בגביע יהיה מעל 108 גרם?
 - נתון שהגלידה בגביע עם משקל נמוך מ-107 גרם. מה ההסתברות שמשקל הגלידה יהיה מעל 105 גרם?
 - מה העשירון העליון של משקל הגלידה בגביע?
 - עלות גביע גלידה היא 0.5 שקל. כל גרם של גלידה עולה 0.22 אגורות. מהי התוחלת ומהי סטיית התקן של עלות הגביע ביחד עם הגלידה?

תשובות סופיות:

- (1) א. תוחלת: 14.5, שונות: 0.866. ב. $\frac{1}{3}$. ג. $\frac{2}{3}$.
- (2) א. $X \sim U(0,10)$. ב. 0.6. ג. 10.
- (3) א. 0.2. ב. $\frac{2}{7}$. ג. 109. ד. תוחלת: 73.1 אגורות, סטיית תקן: 0.635 אגורות.

מבוא להסתברות

פרק 32 - התפלגויות רציפות מיוחדות - התפלגות נורמלית

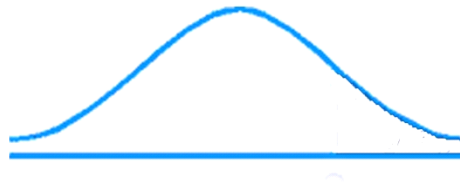
תוכן העניינים

114 1. כללי

התפלגויות רציפות מיוחדות – התפלגות נורמלית:

רקע:

התפלגות נורמלית הינה התפלגות של משתנה רציף. ישנם משתנים רציפים מסוימים שנהוג להתייחס אליהם כנורמליים כגון: זמן ייצור, משקל תינוק ביום היוולדו ועוד. פונקציית הצפיפות של ההתפלגות הנורמלית נראית כמו פעמון:



לעקומה זו קוראים גם עקומת גאוס ועקומה אחת נבדלת מהשנייה באמצעות הממוצע וסטיית התקן שלה.

אלה הם הפרמטרים שמאפיינים את ההתפלגות: $X \sim N(\mu, \sigma^2)$.

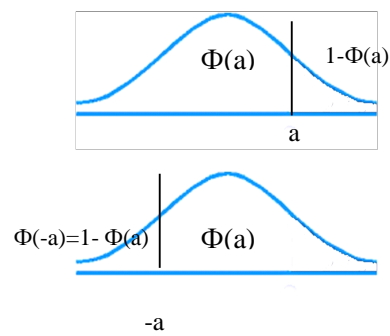
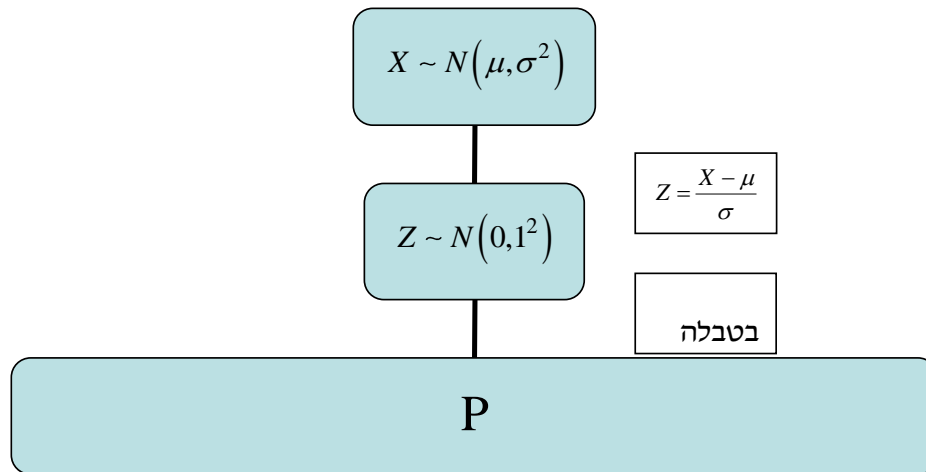
$$\text{נוסחת פונקציית הצפיפות: } f(x) = \frac{1}{\sqrt{2\pi\sigma^2}} e^{-\frac{(x-\mu)^2}{2\sigma^2}}$$

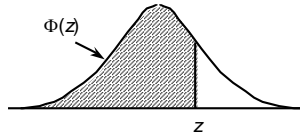
כדי לחשב הסתברויות בהתפלגות נורמלית יש לחשב את השטחים הרלוונטיים שמתחת לעקומה. כדי לחשב שטחים אלה נמיר כל התפלגות נורמלית להתפלגות נורמלית סטנדרטית על ידי תהליך הנקרא תקנון. התפלגות נורמלית סטנדרטית היא התפלגות נורמלית שהממוצע שלה הוא אפס וסטיית התקן היא אחת, והיא תסומן באות Z : $Z \sim N(0, 1^2)$.

$$\text{תהליך התקנון מבוצע על ידי הנוסחה הבאה: } Z = \frac{X - \mu}{\sigma}$$

אחרי תקנון מקבלים ערך הנקרא ציון תקן. ציון התקן משמעו בכמה סטיות תקן הערך סוטה מהממוצע.

לאחר חישוב ציון התקן של ערך מסוים נעזרים בטבלה של ההתפלגות הנורמלית הסטנדרטית לחישוב השטח הרצוי, ובאופן כללי נתאר את הסכמה הבאה:



טבלת ההתפלגות המצטברת הנורמלית סטנדרטית – ערכי $\Phi(z)$:


z	.00	.01	.02	.03	.04	.05	.06	.07	.08	.09
0.0	.5000	.5040	.5080	.5120	.5160	.5199	.5239	.5279	.5319	.5359
0.1	.5398	.5438	.5478	.5517	.5557	.5596	.5636	.5675	.5714	.5753
0.2	.5793	.5832	.5871	.5910	.5948	.5987	.6026	.6064	.6103	.6141
0.3	.6179	.6217	.6255	.6293	.6331	.6368	.6406	.6443	.6480	.6517
0.4	.6554	.6591	.6628	.6664	.6700	.6736	.6772	.6808	.6844	.6879
0.5	.6915	.6950	.6985	.7019	.7054	.7088	.7123	.7157	.7190	.7224
0.6	.7257	.7291	.7324	.7357	.7389	.7422	.7454	.7486	.7517	.7549
0.7	.7580	.7611	.7642	.7673	.7704	.7734	.7764	.7794	.7823	.7852
0.8	.7881	.7910	.7939	.7967	.7995	.8023	.8051	.8078	.8106	.8133
0.9	.8159	.8186	.8212	.8238	.8264	.8289	.8315	.8340	.8365	.8389
1.0	.8413	.8438	.8461	.8485	.8508	.8531	.8554	.8577	.8599	.8621
1.1	.8643	.8665	.8686	.8708	.8729	.8749	.8770	.8790	.8810	.8830
1.2	.8849	.8869	.8888	.8907	.8925	.8944	.8962	.8980	.8997	.9015
1.3	.9032	.9049	.9066	.9082	.9099	.9115	.9131	.9147	.9162	.9177
1.4	.9192	.9207	.9222	.9236	.9251	.9265	.9279	.9292	.9306	.9319
1.5	.9332	.9345	.9357	.9370	.9382	.9394	.9406	.9418	.9429	.9441
1.6	.9452	.9463	.9474	.9484	.9495	.9505	.9515	.9525	.9535	.9545
1.7	.9554	.9564	.9573	.9582	.9591	.9599	.9608	.9616	.9625	.9633
1.8	.9641	.9649	.9656	.9664	.9671	.9678	.9686	.9693	.9699	.9706
1.9	.9713	.9719	.9726	.9732	.9738	.9744	.9750	.9756	.9761	.9767
2.0	.9772	.9778	.9783	.9788	.9793	.9798	.9803	.9808	.9812	.9817
2.1	.9821	.9826	.9830	.9834	.9838	.9842	.9846	.9850	.9854	.9857
2.2	.9861	.9864	.9868	.9871	.9875	.9878	.9881	.9884	.9887	.9890
2.3	.9893	.9896	.9898	.9901	.9904	.9906	.9909	.9911	.9913	.9916
2.4	.9918	.9920	.9922	.9925	.9927	.9929	.9931	.9932	.9934	.9936
2.5	.9938	.9940	.9941	.9943	.9945	.9946	.9948	.9949	.9951	.9952
2.6	.9953	.9955	.9956	.9957	.9959	.9960	.9961	.9962	.9963	.9964
2.7	.9965	.9966	.9967	.9968	.9969	.9970	.9971	.9972	.9973	.9974
2.8	.9974	.9975	.9976	.9977	.9977	.9978	.9979	.9979	.9980	.9981
2.9	.9981	.9982	.9982	.9983	.9984	.9984	.9985	.9985	.9986	.9986
3.0	.9987	.9987	.9987	.9988	.9988	.9989	.9989	.9989	.9990	.9990
3.1	.9990	.9991	.9991	.9991	.9992	.9992	.9992	.9992	.9993	.9993
3.2	.9993	.9993	.9994	.9994	.9994	.9994	.9994	.9995	.9995	.9995
3.3	.9995	.9995	.9995	.9996	.9996	.9996	.9996	.9996	.9996	.9997
3.4	.9997	.9997	.9997	.9997	.9997	.9997	.9997	.9997	.9997	.9998

z	1.282	1.645	1.960	2.326	2.576	3.090	3.291	3.891	4.417
$\Phi(z)$	0.90	0.95	0.975	0.99	0.995	0.999	0.9995	0.99995	0.999995

דוגמה (הפתרון בהקלטה):

משקל חפיסות שוקולד המיוצרות בחברה מתפלג נורמלית עם ממוצע 100 גרם בסטיית תקן של 8 גרם.

- (1) מה אחוז חפיסות השוקולד ששוקלות מתחת ל-110 גרם?
- (2) מה אחוז חפיסות השוקולד ששוקלות מעל 110 גרם?
- (3) מה אחוז חפיסות השוקולד ששוקלות מתחת ל-92 גרם?
- (4) מהו המשקל ש-90% מהחפיסות בקו הייצור שוקלים פחות מהם?

שאלות:

- (1) הגובה של אנשים באוכלוסייה מסוימת מתפלג נורמלית עם ממוצע של 170 ס"מ וסטית תקן של 10 ס"מ.
- מה אחוז האנשים שגובהם מתחת ל-182.4 ס"מ?
 - מה אחוז האנשים שגובהם מעל 190 ס"מ?
 - מה אחוז האנשים שגובהם בדיוק 173.6 ס"מ?
 - מה אחוז האנשים שגובהם מתחת ל-170 ס"מ?
 - מה אחוז האנשים שגובהם לכל היותר 170 ס"מ?
- (2) נתון שהזמן שלוקח לתרופה מסוימת להשפיע מתפלג נורמלית עם ממוצע של 30 דקות ושונות של 9 דקות רבועות.
- מהי פרופורציית המקרים בהן התרופה תעזור אחרי יותר משעה?
 - מה אחוז מהמקרים שבהן התרופה תעזור בין 35 ל-37 דקות?
 - מה הסיכוי שהתרופה תעזור בדיוק תוך 36 דקות?
 - מה שיעור המקרים שבהן ההשפעה של התרופה תסטה מ-30 דקות בפחות מ-3 דקות?
- (3) המשקל של אנשים באוכלוסייה מסוימת מתפלג נורמלית עם ממוצע של 60 ק"ג וסטית תקן של 8 ק"ג.
- מה אחוז האנשים שמשקלם נמוך מ-55 ק"ג?
 - מהי פרופורציית האנשים באוכלוסייה שמשקלם לפחות 50 ק"ג?
 - מהי השכיחות היחסית של האנשים באוכלוסייה שמשקלם בין 60 ל-70 ק"ג?
 - לאיזה חלק מהאוכלוסייה משקל הסוטה מהמשקל הממוצע בלא יותר מ-4 ק"ג?
 - מה הסיכוי שאדם אקראי ישקול מתחת ל-140 ק"ג?
- (4) משקל תינוקות ביום היוולדם מתפלג נורמלית עם ממוצע של 3300 גרם וסטית תקן 400 גרם.
- מצאו את העשירון העליון.
 - מצאו את האחוזון ה-95.
 - מצאו את העשירון התחתון.

- (5) ציוני מבחן אינטליגנציה מתפלגים נורמלית עם ממוצע 100 ושונויות 225.
- מה העשירון העליון של הציונים במבחן האינטליגנציה?
 - מה העשירון התחתון של ההתפלגות?
 - מהו הציון ש-20% מהנבחנים מקבלים מעליו?
 - מהו האחוזון ה-20?
 - מהו הציון ש-5% מהנבחנים מקבלים מתחתיו?
- (6) נפח משקה בבקבוק מתפלג נורמלית עם סטיית תקן של 20 מ"ל, ונתון ש-33% מהבקבוקים בעלי נפח שעולה על 508.8 מ"ל.
- מה ממוצע נפח משקה בבקבוק?
 - 5% מהבקבוקים המיוצרים עם הנפח הגבוה ביותר נשלחים לבדיקה, החל מאיזה נפח שולחים בקבוק לבדיקה?
 - 1% מהבקבוקים עם הנפח הקטן ביותר נתרמים לצדקה, מהו הנפח המקסימלי לצדקה?
- (7) אורך חיים של מכשיר מתפלג נורמלית. ידוע שמחצית מהמכשירים חיים פחות מ-500 שעות, כמו כן ידוע ש-67% מהמכשירים חיים פחות מ-544 שעות.
- מהו ממוצע אורך חיי מכשיר?
 - מהי סטית בתקן של אורך חיי מכשיר?
 - מה הסיכוי שמכשיר אקראי יחיה פחות מ-460 שעות?
 - מהו המאיון העליון של אורח חיי מכשיר?
 - 1% מהמכשירים בעלי אורך החיים הקצר ביותר נשלח למעבדה לבדיקה מעמיקה. מהו אורך החיים המקסימלי לשליחת מכשיר למעבדה?
- (8) להלן שלוש התפלגויות נורמליות של שלוש קבוצות שונות ששורטטו באותה מערכת צירים. ההתפלגויות מוספרו כדי להבדיל ביניהן.
- לאיזו התפלגות הממוצע הגבוה ביותר?
 - במה מבין המדדים הבאים התפלגות 1 ו-2 זהות?
 - בעשירון העליון.
 - בממוצע.
 - בשונויות.
 - לאיזו התפלגות סטיית התקן הקטנה ביותר?
 - 1.
 - 2.
 - 3.
 - אין לדעת.



- 9) הזמן שלוקח לאדם להגיע לעבודתו מתפלג נורמלית עם ממוצע של 40 דקות וסטית תקן של 5 דקות.
- א. מה ההסתברות שמשך הנסיעה של האדם לעבודתו יהיה לפחות שלושת רבעי השעה?
- ב. אדם יצא לעבודתו בשעה 08:10 מביתו. הוא צריך להגיע לעבודתו בשעה 09:00. מה הסיכוי שיאחר לעבודתו?
- ג. אם ידוע שזמן נסיעתו לעבודה היה יותר משלושת רבעי השעה. מה ההסתברות שזמן הנסיעה הכולל יהיה פחות מ-50 דקות?
- ד. מה הסיכוי שבשבוע (חמישה ימי עבודה) בדיוק פעם אחת יהיה זמן הנסיעה לפחות שלושת רבעי השעה?
- 10) ההוצאה החודשית לבית אב בעיר "טרירה" מתפלגת נורמלית עם ממוצע של 2000 דולר וסטית תקן של 300 דולר. בחרו באקראי 5 בתי אב. ההסתברות שלפחות אחד מהם מוציא בחודש מעל ל- T דולר היא 0.98976.
- א. מה ערכו של T ?
- ב. מה הסיכוי שההוצאה החודשית של בית אב בעיר תהיה לפחות סטיית תקן אחת מעל T ?
- ג. מסתבר שנפלה טעות בנתונים, ויש להוסיף 100 דולר להוצאות החודשית של כל בתי האב בעיר. לאור זאת, מה ההסתברות שההוצאה החודשית של בית אב נמוכה מ-1800 דולר?
- 11) אורך שיר אקראי המשודר ברדיו מתפלג נורמלית עם תוחלת של 3.5 דקות וסטית תקן של שלושים שניות.
- א. מה ההסתברות שאורך של שיר אקראי המנוגן ברדיו יהיה בין 3 ל-2.5 דקות?
- ב. מהו הטווח הבין רבעוני של אורך שיר המשודר ברדיו?
- ג. ביום מסוים מנוגנים 200 שירים ברדיו. כמה שירים מתוכם תצפה שיהיו באורך הנמוך מ-3.5 דקות?
- ד. בשעה מסוימת שודרו 8 שירים. מה ההסתברות שרבע מהם בדיוק היו ארוכים מ-4 דקות והיתר לא?

תשובות סופיות:

ה. 50%	ד. 50%	ג. 0	ב. 2.28%	א. 89.25%	(1)
	ד. 68.26%	ג. 0%	ב. 3.76%	א. 0%	(2)
	ד. 0.383	ג. 39.44%	ב. 89.44%	א. 26.43%	(3)
				ה. 100%	
		ג. 2787.2	ב. 3958	א. 3812.8	(4)
	ד. 87.4	ג. 112.6	ב. 80.8	א. 119.2	(5)
		ג. 453.48	ב. 532.9	א. 500	(6)
	ד. 733	ג. 0.3446	ב. 100	א. 500	(7)
				ה. 267	
		ג. 1	ב. בממוצע.	א. 3	(8)
	ד. 0.3975	ג. 0.8563	ב. 0.0228	א. 0.1587	(9)
		ג. 0.1587	ב. 0.2266	א. 1925	(10)
	ד. 0.25	ג. 100	ב. 0.675	א. 0.1359	(11)

מבוא להסתברות

פרק 33 - משתנה דו-מימדי בדיד - פונקציית הסתברות משותפת

תוכן העניינים

1. כללי 122

משתנה דו מימדי בדיד – פונקציית הסתברות משותפת:

רקע:

התפלגות דו ממדית הינה התפלגות שדנה בשני משתנים. נרצה כעת לבנות פונקציית הסתברות דו ממדית, בה יש התפלגות של שני משתנים בו זמנית: X ו- Y .

דוגמה:

תלמיד ניגש בסמסטר לשני מבחנים: מבחן בכלכלה ומבחן בסטטיסטיקה. כמו כן, נתון שהסיכוי לעבור את המבחן בכלכלה הנו 0.8, הסיכוי לעבור את המבחן בסטטיסטיקה הנו 0.9 והסיכוי לעבור את שני המבחנים הנו 0.75. יהי X מספר הקורסים שהסטודנט עבר. ויהי Y משתנה אינדיקטור המקבל את הערך 1 אם הסטודנט עבר את הבחינה בכלכלה, ו-0 אחרת. בנו את פונקציית ההסתברות המשותפת של X ו- Y .

נחשב את כל ההסתברויות המשותפות:

$$p(x=0, y=0) = 0.05$$

$$p(x=0, y=1) = 0$$

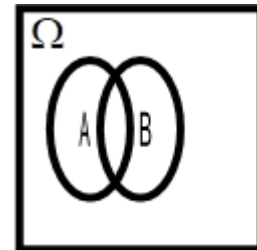
$$p(x=1, y=0) = 0.15$$

$$p(x=1, y=1) = 0.05$$

$$p(x=2, y=0) = 0$$

$$p(x=2, y=1) = 0.75$$

y/x	0	1	2
0	0.05	0.15	0
1	0	0.05	0.75



שימו לב שסכום כל ההסתברויות בפונקציית ההסתברות המשותפת הוא 1.

כעת נסכם את השורות ואת העמודות ונקבל את פונקציות הסתברות שוליות:

Y/X	0	1	2	P_Y
0	0.05	0.15	0	0.2
1	0	0.05	0.75	0.8
P_X	0.05	0.2	0.75	1

משתנים בלתי תלויים:

X ו- Y יהיו משתנים בלתי תלויים, אם עבור כל X ו- Y אפשריים התקיים הדבר

$$\text{הבא: } p(x=k, y=l) = p(x=k) \cdot p(y=l).$$

מספיק פעם אחת שהמשתנים אינם מקיימים תנאי זה אזי הם תלויים.

דוגמה:

$$p(x=2, y=1) = 0.75 \neq p(x=2) \cdot p(y=1) = 0.75 \cdot 0.8 = 0.6$$

ככלל, אם יש אפס בתוך פונקציית ההסתברות המשותפת ניתן להבין באופן מידי שהמשתנים תלויים, שאז הרי התנאי לא מתקיים. אך אם אין אפס בטבלה, אין זה אומר שהמשתנים בלתי תלויים ויש לבדוק זאת.

שאלות:

- (1) אדם נכנס לקזינו עם 75 דולר. הוא ישחק במכונת מזל בה יש סיכוי של 0.3 לנצח. במקרה של ניצחון במשחק הוא יקבל מהקזינו 25 דולר ובמקרה של הפסד הוא ישלם 25 דולר. אותו אדם החליט שיפסיק לשחק ברגע שיהיה לו 100 דולר, אך בכל מקרה לא ישחק יותר מ-3 משחקים. נגדיר את X להיות הכסף שברשות האדם בצאתו מהקזינו ואת Y כמספר המשחקים שהאדם שיחק.
- בנו את פונקציית ההסתברות המשותפת והשוליות.
 - מה תוחלת מספר המשחקים שישחק האדם?
 - אם האדם יצא מהקזינו שברשותו 100 דולר, מה התוחלת ומהי השונות של מספר המשחקים ששיחק?

- (2) להלן פונקציית ההסתברות המשותפת והשוליות של שני משתנים מקריים בדידים:

Y / X	0	1	2	$P(Y)$
2		0.08	0.12	0.4
3	0.1	0.05		
4				0.45
$P(X)$		0.4	0.2	

- השלימו את ההסתברויות החסרות בטבלה.
 - האם X ו- Y תלויים?
 - מצאו את הסתברות ש- $Y = 3$, אם ידוע ש- $X = 1$.
- (3) מפעל משווק מוצר הנארז בחבילות בגדלים שונים. ישנו מספר שווה של חבילות בנות שני מוצרים ושלושה מוצרים. ההסתברות שמוצר מסוים יהיה פגום היא $\frac{1}{10}$. מהנדס הייצור בוחר באקראי חבילת מוצרים לשם בקרת איכות. יהי X מספר המוצרים בחבילה, ו- Y מספר המוצרים הפגומים בחבילה.
- מה ההתפלגות של המשתנה Y בהינתן $x = 3$.
 - מה ההתפלגות של המשתנה Y בהינתן X הינו K כלשהו.
 - מהי תוחלת מספר המוצרים הפגומים בחבילות בנות 3 מוצרים? נמקו.
 - בנו את פונקציית ההסתברות המשותפת.

- (4) מתוך כד עם 3 כדורים ממוספרים במספרים 2, 4, 8 שולפים באקראי שניים ללא החזרה. יהי X המספר הקטן מבין השניים ו- Y הגדול מביניהם.
- א. חשבו את ההתפלגות של (X, Y) .
- ב. אם המספר המינימאלי שנבחר הוא 2, מה הסיכוי שהמקסימאלי הוא 8?
- ג. חשבו את ההתפלגות המותנית של X בהינתן $Y = 4$. מצאו: $E(X / Y = 4)$.
- (5) ביישוב שני סניפי בנק. סניף פועלים וסניף לאומי. להלן הנתונים לגבי האוכלוסייה הבוגרת המתגוררת ביישוב: ל-60% יש חשבון בסניף פועלים של היישוב, ל-50% יש חשבון בסניף לאומי של היישוב ול-95% יש חשבון בלפחות אחד מהסניפים. יהי X מספר הסניפים בישוב אשר לתושב בוגר יש בהם חשבון, ויהי Y משתנה אינדיקטור:
- 1 – אם יש לתושב חשבון בסניף פועלים.
 0 – אחרת.
- א. בנו את פונקציית ההסתברות המשותפת של X ו- Y .
- ב. הוסיפו את פונקציית ההסתברות השולית.
- ג. ידוע שלתושב בוגר חשבון בבנק פועלים, מה ההסתברות שיש לו חשבון בנק בסניף אחד בלבד?

תשובות סופיות:

1) א. להלן טבלה: ב. 2.4 ג. תוחלת: 1.348, שונות: 0.575.

$x \setminus y$	0	50	100	$P(y)$
1	0	0	0.3	0.3
3	0.343	0.294	0.063	0.7
$P(x)$	0.343	0.294	0.363	1

2) א. להלן טבלה: ב. תלויים. ג. 0.125.

$x \setminus y$	0	1	2	$P(y)$
2	0.2	0.08	0.12	0.4
3	0.1	0.05	0	0.15
4	0.1	0.27	0.08	0.45
$P(x)$	0.4	0.4	0.2	1

3) א. $y/x=3 \sim B\left(n=3, p=\frac{1}{10}\right)$ ב. $y/x=k \sim B\left(n=k, p=\frac{1}{10}\right)$

ג. 0.3 ד. להלן טבלה:

$x \setminus y$	2	3	$P(y)$
0	0.405	0.3645	
1	0.09	0.1215	
2	0.005	0.0135	
3	0	0.0005	
$P(x)$	0.5	0.5	1

4) א. להלן טבלה: ב. 0.5 ג. תוחלת: 2.

$x \setminus y$	2	4	$P(y)$
4	$\frac{1}{3}$	$\frac{2}{3}$	$\frac{1}{3}$
8	$\frac{1}{3}$	$\frac{1}{3}$	$\frac{2}{3}$
$P(x)$	$\frac{2}{3}$	$\frac{1}{3}$	1

5) א+ב. להלן טבלה: ג. 0.75.

$x \setminus y$	0	1	2	$P(y)$
0	0.05	0.35	0	0.4
1	0	0.45	0.15	0.6
$P(x)$	0.05	0.8	0.15	1

מבוא להסתברות

פרק 34 - משתנה דו מימדי בדיד - מתאם בין משתנים

תוכן העניינים

1. כללי 128

השפעת טרנספורמציה לינארית על מקדם המתאם:

$$\rho[(aX+b), (cY+d)] = \begin{cases} \rho(X,Y) & \text{if } a \cdot c > 0 \\ -\rho(X,Y) & \text{if } a \cdot c < 0 \end{cases}$$

כלומר, טרנספורמציה לינארית על שני משתנים לא משנה את עוצמת הקשר ביניהם היא עלולה לשנות רק את כיוון הקשר.

דוגמה (פתרון בהקלטה):

נחזור לדוגמה שהוצגה בפרק הקודם:

תלמיד ניגש בסמסטר לשני מבחנים מבחן בכלכלה ומבחן בסטטיסטיקה. כמו כן, נתון שהסיכוי לעבור את המבחן בכלכלה הנו 0.8, הסיכוי לעבור את המבחן בסטטיסטיקה הנו 0.9 והסיכוי לעבור את שני המבחנים הנו 0.75.

יהי X מספר הקורסים שהסטודנט עבר, ויהי Y משתנה אינדיקטור המקבל את הערך 1, אם הסטודנט עבר את הבחינה בכלכלה, ו-0 אחרת. נחשב את מקדם המתאם:

X/Y	0	1	2	P_Y
0	0.05	0.15	0	0.2
1	0	0.05	0.75	0.8
P_X	0.05	0.2	0.75	1

X	0	1	2
P_X	0.05	0.2	0.75

$$E(X) = \sum_i x_i P(x_i) = \mu = 0 \cdot 0.05 + 1 \cdot 0.2 + 2 \cdot 0.75 = 1.7$$

$$V(X) = \sum_i (x_i - \mu)^2 P(x_i) = \sum_i x_i^2 P(x_i) - \mu^2 = 0^2 \cdot 0.05 + 1^2 \cdot 0.2 + 2^2 \cdot 0.75 - 1.7^2 = 0.31 = \sigma^2$$

y	P_Y
0	0.2
1	0.8

$$\sigma_x = \sqrt{V(X)} = \sqrt{0.31} = 0.557$$

$$E(y) = \sum_i y_i P(y_i) = 0 + 0.8 = 0.8$$

$$V(y) = \sum_i (y_i - \mu_y)^2 P(y_i) = \sum_i y_i^2 P(y_i) - \mu_y^2 = 0 + 0.8 - 0.8^2 = 0.16 = \sigma_y^2$$

$$\sigma_y = \sqrt{0.16} = 0.4$$

$$E(xy) = 0 \cdot 0 \cdot 0.05 + 0 \cdot 1 \cdot 0 + 1 \cdot 0 \cdot 0.15 + 1 \cdot 1 \cdot 0.05 + 2 \cdot 0 \cdot 0 + 2 \cdot 1 \cdot 0.75 = 1.55$$

$$\text{cov}(x, y) = E(x \cdot y) - E(x) \cdot E(y) = 1.55 - 1.7 \cdot 0.8 = 0.19$$

$$\rho = \frac{\text{cov}(x, y)}{\sigma_x \cdot \sigma_y} = \frac{0.19}{0.557 \cdot 0.4} = 0.853$$

כל קורס שהסטודנט מסיים מזכה אותו ב-3 נקודות אקדמאיות.
מה יהיה מקדם המתאם בין נקודות הזכות שיצבור למשתנה Y ?

שאלות:

- (1) הסיכוי שסטודנט יעבור את המבחן במועד א' בסטטיסטיקה הוא 0.8. אם הוא נכשל במועד א' הוא ניגש למועד ב' שם הסיכוי לעבור את המבחן מוערך ב-0.9 (סטודנט שעובר את א' לא ניגש לב'). במידה והסטודנט נכשל במועד ב' הוא מגיש בקשה למועד ג' אותה מאשרים בסיכוי של 0.2, והסיכוי שלו לעבור את מועד ג' הוא 0.7.
- נגדיר את X להיות מספר המבחנים אליהם ניגש הסטודנט, ונגדיר את Y להיות מספר המבחנים שנכשל בהם.
- בנו את פונקציית ההסתברות המשותפת ואת פוני ההסתברות השולית.
 - האם המשתנים הינם בלתי תלויים?
 - ידוע שהסטודנט ניגש ליותר ממבחן אחד, מה ההסתברות שהוא נכשל בפחות משלושה מבחנים?
 - האם המתאם בין X ל- Y מלא או חלקי? חיובי או שלילי? הסבירו ללא חישוב.
 - חשבו את מקדם המתאם בין X לבין Y .
 - האם המשתנים הם בלתי מתאומים?
- (2) נטיל מטבע שלוש פעמים. נגדיר את X להיות מספר העצים המתקבלים בשתי ההטלות הראשונות, ואת Y להיות מספר העצים המתקבלים בשתי ההטלות האחרונות.
- בנו את פונקציית ההסתברות המשותפת של X ו- Y ואת פונקציות ההסתברות השוליות.
 - האם X ו- Y הם משתנים בלתי תלויים?
 - מהו מקדם המתאם בין X ל- Y . האם המשתנים מתאומים?
 - אם בשתי ההטלות הראשונות יצא בדיוק עץ אחד, מה ההסתברות שבשתי ההטלות האחרונות יצאו שני עצים?
 - אם בשתי ההטלות האחרונות יצא לפחות פעם אחת עץ, מה ההסתברות שבשתי ההטלות הראשונות יצא עץ אחד?
- (3) נפזר שלושה כדורים שונים בשלושה תאים. נגדיר את המשתנים הבאים:
- X - מספר הכדורים בתא הראשון.
 - Y - מספר הכדורים בתא השני.
- בנו את פונקציית ההסתברות המשותפת.
 - האם המשתנים בלתי מתאומים?

- (4) קובייה הוגנת הוטלה פעמיים. יהי X ההטלה הגדולה מבין שתי התוצאות, ויהי Y מס' ההטלות בהן יצאה תוצאה זוגית.
- מצאו את פונקציית ההסתברות המשותפת של X ו- Y .
 - חשבו את מקדם המתאם של X ו- Y .
 - מצאו את ההתפלגות של Y בהינתן ש- $X = 2$.
- (5) בבניין שלנו 5 דירות. דירות מספר אחת ושלוש הן דירות משופצות והשאר אינן. הוחלט לבחור שתי דירות באקראי מבין הדירות בבניין. נגדיר את המשתנים הבאים:
- X - מספר הדירות המשופצות שנבחרו.
 - Y - מספר הדירות האי זוגיות שנדגמו.
- בנו את פונקציית ההסתברות המשותפת ואת פונקציית ההסתברות השולית.
 - האם המשתנים מתואמים?
 - מה מקדם המתאם בין X לבין Y ?
 - מה יהיה מקדם המתאם:
- בין מספר הדירות המשופצות למספר הדירות הזוגיות שנדגמו.
 - בין מספר הדירות הזוגיות לדירות האי זוגיות שנדגמו.
- ה. כל דירה משופצת עולה 2 מיליון ₪ וכל דירה לא משופצת עולה 1.5 מיליון ₪. מה המתאם בין עלות הדירות שנדגמו למספר הדירות הזוגיות?

תשובות סופיות:

(1) א. להלן טבלה: ב. תלויים. ג. 0.994 ד. חלקי חיובי.

$x \setminus y$	1	2	3	$P(y)$
0	0.8	0	0	0.8
1	0	0.18	0	0.18
2	0	0.016	0.0028	0.0188
3	0	0	0.0012	0.0012
$P(x)$	0.8	0.196	0.004	1

ה. 0.963 ו. מתואמים.

(2) א. להלן טבלה: ב. תלויים. ג. מקדם המתאם: 0.5, מתואמים.

$x \setminus y$	0	1	2	$P(y)$
0	$\frac{1}{8}$	$\frac{1}{8}$	0	$\frac{2}{8}$
1	$\frac{1}{8}$	$\frac{2}{8}$	$\frac{1}{8}$	$\frac{4}{8}$
2	0	$\frac{1}{8}$	$\frac{1}{8}$	$\frac{2}{8}$
$P(x)$	$\frac{2}{8}$	$\frac{4}{8}$	$\frac{2}{8}$	1

ד. 0.25 ה. 0.5

(3) א. להלן טבלה: ב. מתואמים.

$x \setminus y$	0	1	2	3
0	$\frac{1}{27}$	$\frac{3}{27}$	$\frac{3}{27}$	$\frac{1}{27}$
1	$\frac{3}{27}$	$\frac{6}{27}$	$\frac{3}{27}$	0
2	$\frac{3}{27}$	$\frac{3}{27}$	0	0
3	$\frac{1}{27}$	$\frac{6}{27}$	0	0

4) א. להלן טבלה: ב. 0.252.

$x \setminus y$	1	2	3	4	5	6
0	$\frac{1}{36}$	0	$\frac{3}{36}$	0	$\frac{5}{36}$	0
1	0	$\frac{2}{36}$	$\frac{2}{36}$	$\frac{4}{36}$	$\frac{4}{36}$	$\frac{6}{36}$
2	0	$\frac{1}{36}$	0	$\frac{3}{36}$	0	$\frac{5}{36}$

ג. $\frac{2}{3}$.

5) א. להלן טבלה: ב. X ו- Y מתואמים.

$x \setminus y$	0	1	2	$P(y)$
0	0.1	0	0	0.1
1	0.2	0.4	0	0.6
2	0	0.2	0.1	0.3
$P(x)$	0.3	0.6	0.1	1

ה. $-\frac{2}{3}$.

ii. -1.

ד. i. $-\frac{2}{3}$.

מבוא להסתברות

פרק 35 - המשתנה המקרי הדו ממדי - קומבינציות ליניאריות

תוכן העניינים

1. כללי 135

המשתנה המקרי הדו ממדי – קומבינציות לינאריות:

רקע:

יהיו שני משתנים מקריים X ו- Y .
התוחלת והשונות של סכומם היא:

$$E(X+Y) = E(X) + E(Y)$$

$$V(X+Y) = V(X) + V(Y) + 2 \cdot \text{cov}(X, Y)$$

התוחלת והשונות של הפרשם היא:

$$E(X-Y) = E(X) - E(Y)$$

$$V(X-Y) = V(X) + V(Y) - 2 \cdot \text{cov}(X, Y)$$

קומבינציה ליניארית:

יוצרים משתנה חדש שהוא קומבינציה ליניארית של שני משתנים אחרים:
 $W = (aX + b) + (cY + d)$. אזי:

$$\text{cov}[(aX + b), (cY + d)] = a \cdot c \cdot \text{cov}(X, Y)$$

$$E(W) = E((aX + b) + (cY + d)) = aE(X) + b + cE(Y) + d$$

$$V(W) = V((aX + b) + (cY + d)) = a^2V(X) + c^2V(Y) + 2 \cdot a \cdot c \cdot \text{cov}(X, Y)$$

דוגמה (פתרון בהקלטה):

- נתונים שני משתנים מקריים X ו- Y המקיימים:
 $\mu_X = 80$, $\sigma_X = 15$, $\mu_Y = 70$, $\sigma_Y = 20$, $\text{cov}(X, Y) = 200$
- מצאו את התוחלת והשונות של סכום המשתנים.
 - מצאו את התוחלת והשונות של X ו- Y .
 - מצאו את השונות ומה התוחלת של המשתנה $W = 2X + 3Y$.

שאלות:

(1) נתונה פונקציית ההסתברות המשותפת הבאה:

Y / X	1	2	3	$P(X)$
2		0.1	0.3	0.6
3	0.2		0.1	
$P(X)$				

- א. השלימו את ההסתברויות החסרות.
- ב. האם המשתנים תלויים?
- ג. האם המשתנים בלתי מתואמים?
- ד. חשבו את השונות המשותפת.
- ה. חשבו את התוחלת והשונות של סכום המשתנים.
- ו. חשבו את התוחלת והשונות של הפרש המשתנים.

(2) מבחן בנוי מחלק כמותי וחלק מילולי. תוחלת הציון בחלק הכמותי היא 100, עם סטיית תקן 20. תוחלת הציונים בחלק המילולי היא 90 עם סטיית תקן 15. מקדם המתאם בין הציון הכמותי לציון המילולי הוא 0.8.

- א. חשבו את השונות המשותפת בין הציון הכמותי לציון המילולי.
- ב. חשבו את התוחלת והשונות של סכום הציונים בחלק הכמותי ובחלק המילולי.
- ג. חשבו את התוחלת והשונות של הפרש הציונים בין החלק הכמותי לחלק המילולי.
- ד. עלות הבחינה 2000 שקלים. הוחלט לזכות שקל עבור כל נקודה שנצברה בחלק המילולי ושני שקלים עבור כל נקודה שנצברה בחלק הכמותי. מהי התוחלת ומהי השונות של עלות הבחינה נטו (העלות לאחר הזיכוי)?

(3) נתון: $\text{var}(X + 2Y) = 3$, $\text{var}(X - 2Y) = 2$.
חשבו: $\text{cov}(X, Y)$.

(4) מטילים קובייה n פעמים. נגדיר את המשתנים הבאים:
 X = מספר הפעמים שהתקבלה התוצאה 6.
 Y = מספר הפעמים שהתקבלה התוצאה 5.
 בטאו את השונות המשותפת באמצעות n .

תשובות סופיות:

(1) א. להלן טבלה: ב. תלויים. ג. מתואמים. ד. -0.1.

$x \setminus y$	1	2	3	$P(y)$
2	0.2	0.1	0.3	0.6
3	0.2	0.1	0.1	0.4
$P(x)$	0.4	0.2	0.4	1

- ה. תוחלת: 4.4, שונות: 0.84. ו. תוחלת: -0.4, שונות: 1.24.
- (2) א. 240. ב. תוחלת: 190, שונות: 1105.
- ג. תוחלת: 10, שונות: 145. ד. תוחלת: 1710, שונות: 2785.
- (3) -0.125.
- (4) $-\frac{n}{36}$.

מבוא להסתברות

פרק 36 - המשתנה המקרי הדו ממדי הבדיד - שאלות מסכמות

תוכן העניינים

1. שאלות מסכמות 138

המשתנה המקרי הדו ממדי הבדיד – שאלות מסכמות:

רקע:

משתנים בלתי תלויים:

יהיו משתנים X ו- Y . הם יהיו משתנים בלתי תלויים אם עבור כל X ו- Y אפשריים מתקיים: $p(x=k, y=l) = p(x=k) \cdot p(y=l)$.

מקדם המתאם:

מגדירים את מקדם המתאם: $\rho = \frac{\text{cov}(x, y)}{\sigma_x \cdot \sigma_y}$.

שוונות משותפת:

מגדירים את השונות המשותפת:

$$\text{cov}(x, y) = E[(x - \mu_x)(y - \mu_y)] = E(x \cdot y) - E(x) \cdot E(y)$$

תכונות של השונות המשותפת:

$$1. \text{cov}(X, Y) = \text{cov}(Y, X)$$

$$2. \text{cov}(X, X) = \text{var}(X)$$

$$3. \text{cov}[(aX + b), (cY + d)] = a \cdot c \cdot \text{cov}(X, Y)$$

משתנים בלתי מתואמים:

משתנים בלתי מתואמים הם משתנים שמקדם המתאם שלהם אפס וכדי שדבר כזה יקרה השונות המשותפת צריכה להתאפס.

השפעת טרנספורמציה לינארית על מקדם המתאם:

$$\rho[(aX+b), (cY+d)] = \begin{cases} \rho(X,Y) & \text{if } a \cdot c > 0 \\ -\rho(X,Y) & \text{if } a \cdot c < 0 \end{cases}$$

תוחלת ושונות של סכום משתנים:

$$E(X+Y) = E(X) + E(Y) \quad V(X+Y) = V(X) + V(Y) + 2 \cdot \text{cov}(X, Y)$$

קומבינציות לינאריות:

נגדיר קומבינציה ליניארית כללית באופן הבא: $W = (aX+b) + (cY+d)$
אזי מתקיים:

$$E(W) = E((aX+b) + (cY+d)) = aE(X) + b + cE(Y) + d$$

$$V(W) = V((aX+b) + (cY+d)) = a^2V(X) + c^2V(Y) + 2 \cdot a \cdot c \cdot \text{cov}(X, Y)$$

שאלות:

- (1) יש ליצור סיסמה בת 3 תווים. כל תו יכול להיבחר רק מתוך כלל התווים הבאים: $A, B, C, 1, 2$. יהי X מספר הפעמים שהספרה 1 מופיעה בסיסמה, ויהי Y מספר הפעמים שהספרה 1 מופיעה בקצה הסיסמה (שני הקצוות).
- זהו את ההתפלגויות השוליות של X ו- Y כהתפלגויות מיוחדות.
 - מצאו את ההתפלגות המשותפת של X ושל Y .
 - מצאו את מקדם המתאם בין X ל- Y .
 - מהו המתאם בין $2X$ ל- $3Y+5$?
- (2) במסיבת סוף שנה ישנו ארגז קרח ובתוכו 7 בקבוקי בירה: 4 "מכבי", 2 "גולדסטאר" ו-1 "טבורג". קרן לקחה 3 בקבוקי בירה באקראי מתוך ארגז הקרח. נסמן ב- X את מספר בקבוקי "מכבי" שנלקחו על ידי קרן, ונסמן ב- Y את מספר בקבוקי "טבורג" שנלקחו על ידי קרן.
- בנו את פונקציית ההסתברות המשותפת של X ושל Y .
 - חשבו את התוחלת והשונות של X ושל Y .
 - מצאו את השונות המשותפת של X ושל Y .
 - נגדיר את W כמספר בקבוקי ה"גולדסטאר" שנלקחו על ידי קרן. בטאו את W באמצעות X ו- Y , וחשבו את התוחלת והשונות של W על סמך התוצאות שהתקבלו בשני הסעיפים הקודמים בלבד.
 - מהו מקדם המתאם בין מספר בקבוקי "מכבי" שנלקחו על ידי קרן, למספר בקבוקים שאינם "מכבי" שנלקחו על ידי קרן?
- (3) במגירה 6 זוגות נעליים. יהודה הוציא מהמגירה 4 נעליים (לא בהכרח זוגות) באקראי. נסמן ב- W את מספר זוגות הנעליים שהוציא יהודה, ונסמן ב- R את מספר הנעליים השמאליות שהוציא יהודה.
- מצא את ההתפלגות המשותפת של המשתנים שהוצגו.
 - האם המשתנים שהוצגו בלתי תלויים?
 - מצא את התפלגות מספר הנעליים השמאליות שהוצאו אם בסך הכול הוצא זוג נעלים יחיד על ידי יהודה.
 - אם ידוע שהוצאו לפחות 3 נעליים שמאליות מה הסיכוי שהוצא לכל היותר זוג אחד?

- (4) בכד 5 כדורים כחולים, 4 כדורים לבנים ו-3 כדורים ירוקים. בוחרים באקראי וללא החזרה 3 כדורים. נגדיר את המשתנים הבאים:
- X - מקבל את הערך 1 אם נבחר לפחות כדור אחד כחול, ו-0 אחרת.
 Y - מספר הכדורים הלבנים שנבחרו.
- א. חשבו את $P(X=1)$.
- ב. בנו את פונקציית ההסתברות המשותפת של X ו- Y .
- ג. מה התוחלת של Y , אם ידוע שלא הוצאו כדורים כחולים?
- ד. מה השונות של X , אם ידוע שהוצא לכל היותר כדור לבן אחד?
- (5) ביום ההולדת הרביעי של טל הוא מחלק שלושה פרסים שונים באקראי ל-5 ילדים. בכל פעם שטל מחלק פרס הוא בוחר באקראי ילד מתוך ה-5 באופן אקראי ובלתי תלוי בבחירות הקודמות. נגדיר את המשתנים הבאים:
- X - מספר הפרסים שקיבלה יוליה.
 Y - מספר הילדים שלא קיבלו פרס.
- א. בנו את פונקציית ההסתברות המשותפת והשוליות של X ו- Y .
- ב. האם X ו- Y הם משתנים בלתי מתואמים?
- ג. מצאו את התוחלת של $X \cdot Y^2$.
- ד. מה מקדם המתאם בין מספר הפרסים שקיבלה יוליה, למספר הילדים שקיבלו פרס?
- (6) קבעו אילו מהטענות הבאות נכונות. נמקו.
- א. אם שני משתנים הם מתואמים, אזי הם תלויים.
 ב. אם שני משתנים הם תלויים, אזי הם מתואמים.
 ג. אם שני משתנים הם בלתי תלויים, אזי הם בלתי מתואמים.
 ד. אם שני משתנים הם בלתי מתואמים, אזי הם בלתי תלויים.
- (7) במקום עבודה 50 עובדים מתוכם 25 גברים ו-25 נשים. כל עובד נתבקש לבחור מתנה לחג. לכל עובד מוצגות 5 אופציות, מתוכן הוא צריך לבחור אחת. העובדים בוחרים מתנה באקראי ובאופן בלתי תלוי זה בזה.
- נסמן X_i - מספר הגברים שבחרו במתנה i .
 נסמן Y_i - מספר הנשים שבחרו במתנה i .
- א. האם X_1 ו- Y_1 הם משתנים בלתי תלויים? אין צורך לחשב רק להסביר.
 ב. האם X_1 ו- X_2 הם משתנים בלתי תלויים? אין צורך לחשב רק להסביר.
 ג. מהי ההתפלגות של $X_1 + X_2$?
 ד. האם המתאם בין X_1 ו- X_2 מלא או חלקי? חיובי או שלילי?
 אין צורך לחשב רק להסביר.

(8) הוכיחו את הזהות הבאה עבור שלושת המשתנים X, Y ו- Z :
 $\text{cov}(X+Y, Z) = \text{cov}(X, Z) + \text{cov}(Y, Z)$.

(9) מספר העלים שנושרים בסתיו מהעץ בגינה מתפלג פואסונית עם תוחלת של 50 עלים בדקה. נסמן ב- Y את מספר העלים שנושרים מהעץ בין 12:00 ל-12:10, ונסמן ב- Q את מספר העלים שנושרים בין 12:05 ל-12:30.
 א. חשבו את: $\text{cov}(4Y, Q+6)$.
 ב. מה המתאם בין Y ל- Q ?

(10) בסל יש 20 כדורים אדומים, 20 ירוקים ו-20 כחולים. מוציאים באקראי מהסל 20 כדורים. מצאו את מקדם המתאם בין מספר הכדורים האדומים שהוצאו למספר הכדורים הירוקים שהוצאו.

(11) נתון ש: $Y \sim B(1, p)$ כאשר $0 < p < 1$.
 הוכיחו שאם מתקיים: $P(X = x | Y = 0) = P(X = x | Y = 1)$ לכל X , אז X ו- Y הם משתנים בלתי תלויים.

(12) נתון ש- $X \sim B(n, p)$ וכן: $Y \sim B(m, p)$, שאינם תלויים זה בזה.
 הוכיחו שמתקיים: $X | X+Y = k \sim HG(n+m, n, k)$.

תשובות סופיות:

$$(1) \quad X \sim B\left(3, \frac{1}{5}\right), Y \sim B\left(2, \frac{1}{5}\right) \quad \text{א.}$$

ב. להלן טבלה: ג. 0.816 . ד. 0.816 .

X/Y	0	1	2	3	P_Y
0	$\frac{64}{125}$	$\frac{16}{125}$	0	0	$\frac{80}{125}$
1	0	$\frac{32}{125}$	$\frac{8}{125}$	0	$\frac{40}{125}$
2	0	0	$\frac{4}{125}$	$\frac{1}{125}$	$\frac{5}{125}$
P_X	$\frac{64}{125}$	$\frac{48}{125}$	$\frac{12}{125}$	$\frac{1}{125}$	1

$$(2) \quad \text{א. להלן טבלה: ב. } E(X) = \frac{12}{7}, V(X) = \frac{24}{49}, E(Y) = \frac{3}{7}, V(Y) = \frac{12}{49} .$$

X/Y	0	1	2	3	P_Y
0	0	$\frac{3}{35}$	$\frac{12}{35}$	$\frac{4}{35}$	$\frac{20}{35}$
1	$\frac{1}{35}$	$\frac{8}{35}$	$\frac{6}{35}$	0	$\frac{15}{35}$
P_X	$\frac{1}{35}$	$\frac{12}{35}$	$\frac{18}{35}$	$\frac{4}{35}$	1

$$\text{ג. } -\frac{8}{49} . \quad \text{ד. } E(W) = \frac{6}{7}, V(W) = \frac{20}{49} . \quad \text{ה. } -1 .$$

(3) א. להלן טבלה: ב. המשתנים תלויים.

R/W	0	1	2	P_R
0	$\frac{15}{495}$	0	0	$\frac{15}{495}$
1	$\frac{60}{495}$	$\frac{60}{495}$	0	$\frac{120}{495}$
2	$\frac{90}{495}$	$\frac{120}{495}$	$\frac{15}{495}$	$\frac{225}{495}$
3	$\frac{60}{495}$	$\frac{60}{495}$	0	$\frac{120}{495}$
4	$\frac{15}{495}$	0	0	$\frac{15}{495}$
P_W	$\frac{240}{495}$	$\frac{240}{495}$	$\frac{15}{495}$	1

ג. להלן טבלה: ד. 1.

$R/w = 1$	1	2	3
$P(R/w = 1)$	$\frac{1}{4}$	$\frac{2}{4}$	$\frac{1}{4}$

א. $\frac{185}{220}$ ב. להלן טבלה: ג. 1.714 ד. 0.071

X/Y	0	1	P_Y
0	$\frac{1}{220}$	$\frac{55}{220}$	$\frac{56}{220}$
1	$\frac{12}{220}$	$\frac{100}{220}$	$\frac{112}{220}$
2	$\frac{18}{220}$	$\frac{30}{220}$	$\frac{48}{220}$
3	$\frac{4}{220}$	0	$\frac{4}{220}$
P_X	$\frac{35}{220}$	$\frac{185}{220}$	1

א. להלן טבלה: ב. X ו- Y בלתי מתואמים. (5)

X/Y	0	1	2	3	P_Y
2	$\frac{24}{125}$	$\frac{36}{125}$	0	0	$\frac{60}{125}$
3	$\frac{36}{125}$	$\frac{12}{125}$	$\frac{12}{125}$	0	$\frac{60}{125}$
4	$\frac{4}{125}$	0	0	$\frac{1}{125}$	$\frac{5}{125}$
P_X	$\frac{64}{125}$	$\frac{48}{125}$	$\frac{12}{125}$	$\frac{1}{125}$	1

ג. 4.128 ד. 0.

א. נכון. ב. לא נכון. ג. נכון. ד. לא נכון. (6)

- 7) א. בלתי תלויים. ב. תלויים. ג. $x_1 + x_2 \sim B\left(n = 25, p = \frac{2}{5}\right)$.
- ד. חלקי ושלילי.
- 8) שאלת הוכחה.
- 9) א. 1000. ב. 0.316.
- 10) -0.5.
- 11) שאלת הוכחה.
- 12) שאלת הוכחה.