

# מבוא להסתברות



## תוכן העניינים

1	1. יסודות ההסתברות
5	2. פעולות בין מאורעות (חיתוך ואיחוד) - מאורעות זרים ומכילים
14	3. קומבינטוריקה - כלל המכפלה
18	4. קומבינטוריקה- תמורה - סידור עצמים בשורה
21	5. קומבינטוריקה - תמורה עם עצמים זהים
23	6. קומבינטוריקה- סידור עצמים במעגל
26	7. קומבינטוריקה - דגימה סידורית ללא החזרה ועם החזרה
28	8. קומבינטוריקה - דגימה ללא סדר וללא החזרה
31	9. קומבינטוריקה - דגימה ללא סדר ועם החזרה
35	10. קומבינטוריקה - שאלות מסכמות
42	11. כלל ההכלה וההפרדה
47	12. הסתברות מותנית - מרחב מדגם אחיד
50	13. הסתברות מותנית - מרחב לא אחיד
54	14. דיאגרמת עצים - נוסחת בייס ונוסחת ההסתברות השלמה
59	15. תלות ואי תלות בין מאורעות
63	16. שאלות מסכמות בהסתברות
68	17. המשתנה המקרי הבדיד - פונקציית ההסתברות
72	18. המשתנה המקרי הבדיד - תוחלת - שונות וסטיית תקן
76	19. המשתנה המקרי הבדיד - טרנספורמציה לינארית
79	20. תוחלת ושונות של סכום משתנים מקריים
82	21. התפלגויות בדידות מיוחדות - התפלגות בינומית
86	22. התפלגויות בדידות מיוחדות - התפלגות גיאומטרית
89	23. התפלגויות בדידות מיוחדות - התפלגות אחידה

# תוכן העניינים

92	24. התפלגויות בדידות מיוחדות - התפלגות פואסונית
95	25. קירוב פואסוני להתפלגות הבינומית
97	26. התפלגויות בדידות מיוחדות-התפלגות היפרגאומטרית
100	27. התפלגויות בדידות מיוחדות-התפלגות בינומית שלילית
103	28. המשתנה המקרי הבדיד -תוחלת של פונקציה של משתנה מקרי בדיד
106	29. המשתנה המקרי הבדיד - שאלות מסכמות
113	30. המשתנה המקרי הרציף - התפלגויות כלליות (שימוש באינטגרלים)
122	31. התפלגויות רציפות מיוחדות - התפלגות מעריכית
125	32. התפלגויות רציפות מיוחדות - התפלגות אחידה
128	33. התפלגויות רציפות מיוחדות - התפלגות נורמלית
136	34. פונקציה יוצרת מומנטים
142	35. תכונות של פונקציית יוצרת מומנטים
147	36. משתנה דו מימדי בדיד - פונקצית הסתברות משותפת
153	37. משתנה דו מימדי בדיד - מתאם בין משתנים
160	38. המשתנה המקרי הדו ממדי - קומבינציות לינאריות
163	39. המשתנה המקרי הדו ממדי הבדיד - שאלות מסכמות
171	40. התפלגות מולטינומית
174	41. אי שוויונים בהסתברות
182	42. קומבינציות לינאריות על התפלגות נורמלית
185	43. נוסחת התוחלת השלמה
188	44. נוסחת השונות השלמה ( שונות של משתנה מותנה )
190	45. חישוב תוחלת ושונות על ידי פירוק לאינדיקטורים
193	46. מערכות חשמליות
196	47. התפלגות מינימום ומקסימום
200	48. המשתנה המקרי הדו ממדי הרציף
208	49. קונבולוציה - התפלגות סכום משתנים בלתי תלויים
211	50. התפלגות הדגימה ומשפט הגבול המרכזי
234	51. קשרים בין התפלגויות מיוחדות

# מבוא להסתברות

פרק 1 - יסודות ההסתברות

תוכן העניינים

1. כללי ..... 1

## הגדרות יסודיות:

### רקע:

**ניסוי מקרי:** תהליך לו כמה תוצאות אפשריות. התוצאה המתקבלת נודעת רק לאחר ביצוע התהליך. למשל: תוצאה בהטלת קובייה, מזג האוויר בעוד שבועיים.

**מרחב מדגם:** כלל התוצאות האפשריות בניסוי המקרי. לדוגמה, בהטלת קובייה:  $\{1, 2, 3, 4, 5, 6\}$ , או: מזג האוויר בעוד שבועיים:  $\{\text{נאה, שרבי, מושלג, גשום, מעונן, חלקית, אביד}\}$ .

**מאורע:** תת קבוצה מתוך מרחב במדגם. מסומן באותיות:  $A, B, C$ . בהטלת קובייה למשל, המאורע 'לקבל לפחות 5' יסומן:  $A = \{5, 6\}$ . המאורע 'לקבל תוצאה זוגית' יסומן:  $B = \{2, 4, 6\}$ .

**גודל מרחב המדגם:** מספר התוצאות האפשריות במרחב המדגם. בהטלת קובייה למשל נקבל:  $|\Omega| = 6$ .

**גודל המאורע:** מספר התוצאות האפשריות במאורע עצמו. למשל, בהטלת הקובייה האירועים הקודמים יסומנו:  $|A| = 2, |B| = 3$ .

**מאורע משלים:** מאורע המכיל את כל התוצאות האפשריות במרחב המדגם פרט לתוצאות במאורע אותו הוא משלים. למשל, בהטלת הקובייה:  $\bar{A} = \{1, 2, 3, 4\}$ ,  $\bar{B} = \{1, 3, 5\}$ .

**מרחב מדגם אחיד (סימטרי):** מרחב מדגם בו לכל התוצאות במרחב המדגם יש את אותה עדיפות, אותה סבירות למשל, קובייה הוגנת, אך לא כמו מזג האוויר בשבוע הבא.

**הסתברות במרחב מדגם אחיד:** במרחב מדגם אחיד הסיכוי למאורע יהיה:  $P(A) = \frac{|A|}{|\Omega|}$ .

דוגמה: מה הסיכוי בהטלת קובייה לקבל לפחות 5?  $P(A) = \frac{|A|}{|\Omega|} = \frac{2}{6}$

דוגמה: מה הסיכוי בהטלת קובייה לקבל תוצאה זוגית?  $P(B) = \frac{|B|}{|\Omega|} = \frac{3}{6}$

**הסתברות במרחב לא אחיד:** תחושב לפי השכיחות היחסית:  $\frac{f}{n}$ .

**דוגמה:**

להלן התפלגות הציונים בכיתה מסוימת:

מספר התלמידים – השכיחות – $f$	הציון – $x$
2	5
4	6
8	7
5	8
4	9
2	10

מה ההסתברות שתלמיד אקראי שניבחר בכיתה קיבל את הציון 8?  $\frac{f}{n} = \frac{5}{25} = 0.2$

מה ההסתברות שתלמיד אקראי שניבחר בכיתה יכשל?  $\frac{f}{n} = \frac{2}{25} = 0.08$

**הסתברות למאורע משלים:** הסתברות לקבוצת המשלים של המאורע ביחס למרחב המדגם:  $P(\bar{A}) = 1 - P(A)$ . למשל, בדוגמה הקודמת הסיכוי לעבור את הבחינה יכול

להיות מחושב לפי הסיכוי להיכשל:  $P(\bar{A}) = 1 - \frac{2}{25} = \frac{23}{25}$ .

**שאלות:**

- (1) מהאותיות E, F ו-G יש ליצור מילה בת 2 אותיות, לא בהכרח בת משמעות.  
 א. הרכיבו את כל המילים האפשריות.  
 ב. רשמו את המקרים למאורע:  
 i. במילה נמצאת האות E.  
 ii. במילה האותיות שונות.  
 ג. רשמו את המקרים למאורע  $\bar{A}$ .

- (2) מטילים זוג קוביות.  
 א. רשמו את מרחב המדגם של הניסוי. האם מרחב המדגם אחיד?  
 ב. רשמו את כל האפשרויות לאירועים הבאים:  
 i. סכום התוצאות 7.  
 ii. מכפלת התוצאות 12.  
 ג. חשבו את הסיכויים לאירועים שהוגדרו בסעיף ב'.

- (3) נבחר באקראי ספרה מבין הספרות 0-9.  
 א. מה ההסתברות שהספרה שנבחרה גדולה מ-5?  
 ב. מה ההסתברות שהספרה שנבחרה היא לכל היותר 3?  
 ג. מה ההסתברות שהספרה שנבחרה היא אי זוגית?

- (4) להלן התפלגות מספר מקלטי הטלוויזיה עבור כל משפחה בישוב מסוים:

10	22	18	28	22	<b>מספר משפחות</b>
4	3	2	1	0	<b>מספר מקלטים</b>

- נבחרה משפחה באקראי מהישוב.  
 א. מה ההסתברות שאין מקלטים למשפחה?  
 ב. מה ההסתברות שיש מקלטים למשפחה?  
 ג. מה ההסתברות שיש לפחות 3 מקלטים למשפחה?

- (5) להלן התפלגות מספר המכוניות למשפחה ביישוב "עדן":

10	30	100	40	20	<b>מספר משפחות</b>
4	3	2	1	0	<b>מספר מכוניות</b>

- נבחרה משפחה אקראית מן הישוב.  
 א. מה ההסתברות שאין לה מכוניות?  
 ב. מה ההסתברות שבבעלות המשפחה לפחות 3 מכוניות?  
 ג. מה הסיכוי שבבעלותה פחות מ-3 מכוניות?

- 6) נטיל מטבע רגיל 3 פעמים. בצד אחד של המטבע מוטבע עץ ובצד השני פלי.
- רשמו את מרחב המדגם של הניסוי. האם מרחב המדגם הוא אחיד?
  - רשמו את כל האפשרויות לאירועים הבאים:
    - התקבל פעם אחת עץ.
    - התקבל לפחות פלי אחד.
    - מהו המאורע המשלים ל-D?
    - חשבו את הסיכויים לאירועים שהוגדרו בסעיפים ב-ג.

**תשובות סופיות:**

- 1) א.  $\Omega = \{EE, EF, EG, FE, FF, FG, GE, GF, GG\}$     ב.  $A = \{EE, EF, EG, FE, GE\}$ ,  $B = \{EF, EG, FE, FG, GE, GF\}$     ג.  $\bar{A} = \{FF, FG, GF, GG\}$
- 2) א.  $\Omega = \left\{ \begin{matrix} (1,1) & (2,1) & (3,1) & (5,1) & (4,1) & (6,1) \\ (1,2) & (2,2) & (3,2) & (4,2) & (5,2) & (6,2) \\ (1,3) & (2,3) & (3,3) & (4,3) & (5,3) & (6,3) \\ (1,4) & (2,4) & (3,4) & (4,4) & (5,4) & (6,4) \\ (1,5) & (2,5) & (3,5) & (4,5) & (5,5) & (6,5) \\ (1,6) & (2,6) & (3,6) & (4,6) & (5,6) & (6,6) \end{matrix} \right\}$
- ב.  $A = \{(1,6), (2,5), (3,4), (4,3), (5,2), (6,1)\}$ ,  $C = \{(2,6), (3,4), (4,3), (6,2)\}$
- ג. הסיכוי ל-A:  $\frac{1}{6}$     הסיכוי ל-B:  $\frac{1}{9}$
- 3) א. 0.4    ב. 0.4    ג. 0.5
- 4) א. 0.22    ב. 0.78    ג. 0.32
- 5) א. 0.1    ב. 0.2    ג. 0.8
- 6) א.  $\Omega = \{PPP, PPE, PEP, EPP, PEE, EPE, EEP, EEE\}$
- ב.  $A = \{PPE, PEP, EPP\}$ ,  $D = \{PPP, PPE, PEP, EPP, PEE, EPE, EEP\}$
- ג.  $\bar{D} = \{EEE\}$
- ד.  $\frac{1}{8}$

# מבוא להסתברות

פרק 2 - פעולות בין מאורעות (חיתוך ואיחוד) - מאורעות זרים ומכילים

תוכן העניינים

1. כללי ..... 5

## פעולות בין מאורעות (חיתוך ואיחוד) – מאורעות זרים ומכילים:

**רקע:**

**פעולת חיתוך:**



נותנת את המשותף בין המאורעות הנחתכים.  
 חיתוך בין המאורע  $A$  למאורע  $B$  יסומן כך:  $A \cap B$ .  
 מדובר בתוצאות שנמצאות ב- $A$  וגם ב- $B$ .

דוגמה:

בהטלת קובייה, למשל, האפשרויות לקבל לפחות 5 הן:  $A = \{5, 6\}$ .  
 האפשרויות לקבל תוצאה זוגית הן:  $B = \{2, 4, 6\}$ .  
 החיתוך שביניהם הוא:  $A \cap B = \{6\}$ .

**פעולת איחוד:**



נותנת את כל האפשרויות שנמצאות לפחות באחת מהמאורעות, ומסומנת:  $A \cup B$ .  
 הפעולה נותנת את אשר נמצא ב- $A$  או ב- $B$ .  
 כלומר, לפחות אחד מהמאורעות קורה.

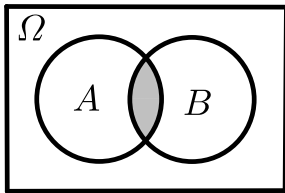
דוגמה:

בהטלת קובייה האפשרויות לקבל לפחות 5 הן:  $A = \{5, 6\}$ .  
 האפשרויות לקבל תוצאה זוגית:  $B = \{2, 4, 6\}$ .  
 האפשרויות לקבל לפחות 5 וגם תוצאה זוגית:  $A \cup B = \{2, 4, 5, 6\}$ .

דוגמה (הפתרון נמצא בהקלטה):

סטודנט ניגש בסמסטר לשני מבחנים. מבחן בסטטיסטיקה ומבחן בכלכלה. ההסתברות שלו לעבור את המבחן בסטטיסטיקה הוא 0.9, ההסתברות שלו לעבור את המבחן בכלכלה הוא 0.8 וההסתברות לעבור את המבחן בסטטיסטיקה ובכלכלה היא 0.75. מה ההסתברות שלו לעבור את המבחן בסטטיסטיקה בלבד? מה ההסתברות שלו להיכשל בשני המבחנים? מה ההסתברות לעבור לפחות מבחן אחד?

**נוסחת החיבור לשני מאורעות:**



ההסתברות של איחוד מאורעות תחושב ע"י הקשר הבא:

$$P(A \cup B) = P(A) + P(B) - P(A \cap B)$$

**חוקי דה מורגן לשני מאורעות:**

$$\overline{A \cup B} = \bar{A} \cap \bar{B}$$

$$\overline{A \cap B} = \bar{A} \cup \bar{B}$$

$$P(A \cap B) = 1 - P(\bar{A} \cup \bar{B})$$

$$P(A \cup B) = 1 - P(\bar{A} \cap \bar{B})$$

**שיטת ריבוע הקסם:**

השיטה רלבנטית רק אם יש שני מאורעות במקביל בדומה לתרגיל הקודם:

	$\bar{A}$	$A$	
$B$	$P(\bar{A} \cap B)$	$P(A \cap B)$	$P(B)$
$\bar{B}$	$P(\bar{A} \cap \bar{B})$	$P(A \cap \bar{B})$	$P(\bar{B})$
	$P(\bar{A})$	$P(A)$	1

**מאורעות זרים:**



מאורעות זרים הם כאשר אין להם אף איבר משותף:  $A \cap B = \{ \}$ . כלומר, הם לא יכולים להתרחש בו זמנית.

ההסתברות של חיתוך המאורעות היא אפס:  $P(A \cap B) = 0$ .

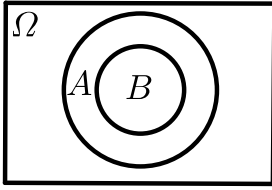
ההסתברות של איחוד המאורעות תחושב:  $P(A \cup B) = P(A) + P(B)$ .

דוגמה:

בהטלת קובייה, האפשרויות לקבל לפחות 5 הן:  $A = \{5, 6\}$  והאפשרות לקבל 3

היא:  $B = \{3\}$ , ולכן החיתוך ביניהם הוא אפס, כלומר:  $A \cap B = \{ \}$ .

### מאורעות מוכלים:



נתונים שני מאורעות  $A$  ו- $B$ , השונים מאפס. נאמר שהמאורע  $B$  מוכל במאורע  $A$  אם כל איברי המאורע  $B$  כלולים במאורע  $A$  ונרשום:  $B \subset A$ .

מאורע  $A$  מכיל את מאורע  $B$  כל התוצאות שנמצאות ב- $B$  מוכלות בתוך מאורע  $A$ .

קשר זה מסומן באופן הבא:  $B \subset A$ .

$$A \cap B = B \quad P(A \cap B) = P(B)$$

$$A \cup B = A \quad P(A \cup B) = P(A)$$

$$A = \{2, 4, 6\}$$

$$B = \{2, 4\}$$

למשל:

## שאלות:

- (1) מהאותיות  $E, F$  ו- $G$  יוצרים מילה בת 2 אותיות – לא בהכרח בת משמעות. נגדיר את המאורעות הבאים:
- $A$  - במילה נמצאת האות  $E$ .
  - $B$  - במילה אותיות שונות.
- א. רשמו את כל האפשרויות לחיתוך  $A$  עם  $B$ .
- ב. רשמו את כל האפשרויות לאיחוד של  $A$  עם  $B$ .
- (2) תלמיד ניגש בסמסטר לשני מבחנים מבחן בכלכלה ומבחן בסטטיסטיקה. נגדיר את המאורעות הבאים:
- $A$  - לעבור את המבחן בסטטיסטיקה.
  - $B$  - לעבור את המבחן בכלכלה.
- היעזרו בפעולות חיתוך, איחוד ומשלים בלבד כדי להגדיר את המאורעות הבאים וסמנום בדיאגרמת וון את השטח המתאים:
- א. התלמיד עבר רק את המבחן בכלכלה.
  - ב. התלמיד עבר רק את המבחן בסטטיסטיקה.
  - ג. התלמיד עבר את שני המבחנים.
  - ד. התלמיד עבר לפחות מבחן אחד.
  - ה. התלמיד נכשל בשני המבחנים.
  - ו. התלמיד נכשל בכלכלה.
- (3) נתבקשתם לבחור ספרה באקראי. נגדיר את  $A$  להיות הספרה שנבחרה היא זוגית. נגדיר את  $B$  להיות הספרה שנבחרה קטנה מ-5.
- א. רשמו את כל התוצאות למאורעות הבאים:  
 $A, B, \bar{B}, A \cap B, A \cup B$ .
  - ב. חשבו את ההסתברויות לכל המאורעות מהסעיף הקודם.
- (4) נסמן ב- $\Omega$  את מרחב המדגם וב- $\phi$  קבוצה ריקה. נתון כי  $A$  הינו מאורע בתוך מרחב המדגם. להלן מוגדרים מאורעות שפתרונם הוא  $\Omega$  או  $\phi$  או  $A$ . קבעו עבור כל מאורע מה הפתרון שלו:
- $\bar{A}, A \cap \phi, A \cup \phi, A \cap \Omega, A \cup \Omega, A \cap \bar{A}, \bar{\phi}, A \cup \bar{A}$ .

(5) הוגדרו המאורעות הבאים :

$A$  - אדם שגובהו מעל 1.7 מטר

$B$  - אדם שגובהו מתחת ל-1.8 מטר.

קבעו את גובהם של האנשים הבאים :

א.  $A \cap B$

ב.  $A \cup B$

ג.  $\overline{A} \cap B$

ד.  $\overline{A} \cup \overline{B}$

ה.  $\overline{\overline{A}}$

(6) נגדיר את המאורעות הבאים :

$A$  - אדם דובר עברית.

$B$  - אדם דובר ערבית.

$C$  - אדם דובר אנגלית.

השתמשו בפעולות איחוד, חיתוך והשלמה לתיאור המאורעות הבאים :

א. אדם דובר את כל שלוש השפות.

ב. אדם דובר רק עברית.

ג. אדם דובר לפחות שפה אחת מתוך השפות הללו.

ד. אדם אינו דובר אנגלית.

ה. קבוצת התלמידים שדוברים שתי שפות בדיוק (מהשפות הנ"ל).

(7) שתי מפלגות רצות לכנסת הבאה. מפלגת "גדר" תעבור את אחוז החסימה בהסתברות של 0.08 ומפלגת "עמיד" תעבור את אחוז החסימה בהסתברות של 0.20. בהסתברות של 76% שתי המפלגות לא תעבורנה את אחוז החסימה.

א. מה ההסתברות שלפחות אחת מהמפלגות תעבור את אחוז החסימה?

ב. מה ההסתברות ששתי המפלגות תעבורנה את אחוז החסימה?

ג. מה ההסתברות שרק מפלגות "עמיד" תעבור את אחוז החסימה?

(8) במקום עבודה מסוים 40% מהעובדים הם גברים. כמו כן, 20% מהעובדים הם אקדמאים. 10% מהעובדים הינן נשים אקדמאיות.

א. איזה אחוז מהעובדים הם גברים אקדמאיים?

ב. איזה אחוז מהעובדים הם גברים או אקדמאיים?

ג. איזה אחוז מהעובדים הם נשים לא אקדמאיות?

9) הסיכוי של מניה A לעלות הנו 0.5 ביום מסוים והסיכוי של מניה B לעלות ביום מסוים הנו 0.4. בסיכוי של 0.7 לפחות אחת מהמניות תעלה ביום מסוים. חשבו את ההסתברויות הבאות לגבי שתי המניות הללו ביום מסוים:

א. ששתי המניות תעלנה.

ב. שאף אחת מהמניות לא תעלנה.

ג. שמניה A בלבד תעלה.

10) מטילים זוג קוביות, אדומה ושחורה. נגדיר את המאורעות הבאים:

A - בקובייה האדומה התקבלה התוצאה 4 ובשחורה 2.

B - סכום התוצאות משתי הקוביות הוא 6.

C - מכפלת התוצאות בשתי הקוביות היא 10.

א. האם A ו-B מאורעות זרים?

ב. האם המאורע B מכיל את המאורע A?

ג. האם A ו-C מאורעות זרים?

ד. האם A ו-C מאורעות משלימים?

11) עבור המאורעות A ו-B ידועות ההסתברויות הבאות:  $P(A) = 0.6$ ,

$$P(\bar{A} \cap \bar{B}) = 0.1, P(B) = 0.3$$

א. האם A ו-B מאורעות זרים?

ב. חשבו את  $P(\bar{A} \cap B)$ .

12) מטבע הוטל פעמיים. נגדיר את המאורעות הבאים:

A - קיבלנו עץ בהטלה הראשונה.

B - קיבלנו לפחות עץ אחד בשתי ההטלות.

איזו טענה נכונה?

א. A ו-B מאורעות זרים.

ב. A ו-B מאורעות משלימים.

ג. B מכיל את A.

ד. A מכיל את B.

13) בהגרלה חולקו 100 כרטיסים. על 3 מהם רשום חופשה ועל 2 מהם רשום מחשב

שאר הכרטיסים ריקים. אדם קיבל כרטיס אקראי.

א. מה הסיכוי לזכות בחופשה או במחשב? האם המאורעות הללו זרים?

ב. מה ההסתברות לא לזכות בפרס?

14 נתון כי:  $P(A) = 0.3$ ,  $P(B) = 0.25$ ,  $P(A \cup B) = 0.49$

- א. חשבו את הסיכוי ל- $P(A \cap B)$ .  
 ב. האם  $A$  ו- $B$  מאורעות זרים?  
 ג. מה ההסתברות שרק  $A$  יקרה או שרק  $B$  יקרה?

15  $A$  ו- $B$  מאורעות זרים. נתון ש:  $2 \cdot P(B \cap \bar{A}) = P(A \cap \bar{B}) = P(\bar{A} \cap \bar{B})$ .

מה הסיכוי למאורע  $A$  ומה ההסתברות למאורע  $B$ ?

16 קבעו אילו מהטענות הבאות נכונות:

- א.  $A \cap B = B \cap A$ .  
 ב.  $\overline{A \cup B} = A \cap B$ .  
 ג.  $A \cap B \cap C = A \cap B \cap (C \cup B)$ .  
 ד.  $\overline{A \cap B \cap C} = \bar{A} \cup \bar{B} \cup \bar{C}$ .

17 נתון ש- $A$  ו- $B$  מאורעות במרחב מדגם. נתון ש- $P(A) = 0.3$ ,  $P(B) = 0.2$ .

- א. האם יתכן ש- $P(A \cup B) = 0.4$ ?  
 ב. האם יתכן ש- $P(A \cup B) = 0.6$ ?  
 ג. אם  $A$  ו- $B$  זרים מה הסיכוי  $P(A \cup B)$ ?  
 ד. אם  $A$  מכיל את  $B$  מה הסיכוי  $P(A \cup B)$ ?

18 מתוך אזרחי המדינה הבוגרים ל-30% חשבון בבנק הפועלים. ל-28% חשבון בבנק לאומי ול-15% חשבון בבנק מזרחי. כמו כן נתון כי 6% מחזיקים חשבון בבנק לאומי ובבנק הפועלים. ל-5% חשבון בבנק פועלים ומזרחי. ול-4% חשבון בבנק לאומי ומזרחי. כמו כן ל-1% מהאוכלוסייה הבוגרת חשבון בנק בשלושת הבנקים יחד.

- א. מה אחוז האזרחים להם חשבון בבנק לאומי בלבד?  
 ב. מה ההסתברות שאזרח כלשהו יחזיק חשבון בבנק פועלים ולאומי אבל לא בבנק מזרחי?  
 ג. מה ההסתברות שלאזרח יהיה חשבון בפועלים או במזרחי אבל לא בבנק לאומי?  
 ד. מה אחוז האזרחים שיש להם חשבון בנק אחד בלבד?  
 ה. מה אחוז האזרחים שיש להם בדיוק חשבון בשני בנקים בלבד?  
 ו. מה ההסתברות שלאזרח בוגר אין חשבון בנק באף אחד מהבנקים הללו?  
 ז. לאיזה אחוז מהאזרחים יש חשבון בנק בלפחות אחד מהבנקים הללו?

- 19** חברה מסוימת פרסמה את הנתונים הבאים לגבי האזרחים מעל גיל 21. הנתונים שהתקבלו היו: 40% מהאנשים מחזיקים כרטיס "ויזה", 52% מחזיקים כרטיס "ישראלכרט", 20% מחזיקים כרטיס "אמריקן אקספרס", 15% מחזיקים כרטיס ויזה וגם ישראלכרט, 8% מחזיקים כרטיס ישראלכרט וגם אמריקן אקספרס ו-7% מחזיקים כרטיס ויזה וגם אמריקן אקספרס. כמו כן, 13% לא מחזיקים באף אחד משלושת הכרטיסים הנ"ל.
- א. מה אחוז מחזיקי שלושת כרטיס האשראי גם יחד?
- ב. מה אחוז מחזיקי ישראלכרט וויזה אך לא את אמריקן אקספרס?
- ג. מה אחוז מחזיקי כרטיס אחד בלבד?

**20** הוכיחו:  $P(\bar{A} \cap \bar{B}) = 1 - P(A) - P(B) + P(A \cap B)$ .

- 21**  $A$  ו- $B$  מאורעות במרחב המדגם. האם נכון לומר שהסיכוי שיתרחש בדיוק מאורע אחד הוא:  $P(A) + P(B) - 2P(A \cap B)$ ?

## תשובות סופיות:

- 1 א.  $A \cap B = \{EG, EF, FE, GE\}$   
 ב.  $A \cup B = \{EG, EF, EE, FE, GE, EG, GF\}$
- 2 א.  $B \cap \bar{A}$  ב.  $A \cap \bar{B}$  ג.  $A \cap B$  ד.  $A \cup B$  ה.  $\bar{A} \cap \bar{B}$  ו.  $\bar{B}$
- 3 א.  $A = 0, 2, 4, 6, 8, B = 0, 1, 2, 3, 4, \bar{B} = 5, 6, 7, 8, 9$   
 $A \cap B = 0, 2, 4, A \cup B = 0, 2, 4, 6, 8, 1, 3$
- ב.  $P(A \cup B) = 0.7, P(A \cap B) = 0.3, P(\bar{B}) = 0.5, P(B) = 0.5, P(A) = 0.5$
- 4 א.  $\bar{\bar{A}} = A, A \cap \phi = \phi, A \cup \phi = A, A \cap \Omega = A, A \cup \Omega = \Omega$   
 $A \cap \bar{A} = \phi, \bar{\phi} = \Omega, A \cup \bar{A} = \Omega$
- 5 א.  $A \cap B$ : גובה בין 1.7 ל-1.8.  
 ב.  $A \cup B$ : כל גובה אפשרי.  
 ג.  $\bar{A} = \bar{A} \cap B$ : גובה לכל היותר 1.7.  
 ד.  $\bar{A} \cup \bar{B}$ : לכל היותר 1.7 או לפחות 1.8.  
 ה.  $A = \bar{\bar{A}}$ : גובה מעל 1.7.
- 6 א.  $A \cap B \cap C$  ב.  $A \cap \bar{B} \cap \bar{C}$  ג.  $A \cup B \cup C$   
 ד.  $\bar{C}$  ה.  $(A \cap B \cap \bar{C}) \cup (B \cap C \cap \bar{A}) \cup (A \cap C \cap \bar{B})$
- 7 א.  $P(A \cup B) = 0.24$  ב.  $P(A \cap B) = 0.04$  ג.  $P(B \cap \bar{A}) = 0.16$
- 8 א.  $P(A \cap B) = 10\%$  ב.  $P(A \cup B) = 50\%$  ג.  $P(\bar{A} \cap \bar{B}) = 50\%$
- 9 א.  $P(A \cap B) = 0.2$  ב.  $P(\bar{A} \cap \bar{B}) = 0.3$  ג.  $P(A \cup \bar{B}) = 0.3$
- 10 א. לא. ב. כן. ג. כן. ד. לא.
- 11 א. כן. ב.  $P(\bar{A} \cap B) = 0.3$
- 12 הטענה הנכונה היא ג'.
- 13 א. 0.05. ב. 0.95.
- 14 א.  $P(A \cap B) = 0.06$  ב. לא. ג.  $P((A \cap \bar{B}) \cup (B \cap \bar{A})) = 0.43$
- 15  $P(B) = \frac{1}{5}, P(A) = \frac{2}{5}$
- 16 א. נכון. ב. לא נכון. ג. לא נכון. ד. נכון.
- 17 א. כן. ב. לא. ג.  $P(A \cup B) = 0.5$  ד.  $P(A \cup B) = 0.3$
- 18 א. 19%. ב. 0.05. ג. 0.31. ד. 46%. ה. 12%. ו. 0.41.  
 ז. 59%.
- 19 א. 5%. ב. 10%. ג. 67%.
- 20 שאלת הוכחה.
- 21 נכון.

# מבוא להסתברות

פרק 3 - קומבינטוריקה - כלל המכפלה

תוכן העניינים

1. כללי ..... 14

## קומבינטוריקה – כלל המכפלה:

**רקע:**

**כלל המכפלה:**

כלל המכפלה הוא כלל שבאמצעותו אפשר לחשב את גודל המאורע או גודל מרחב המדגם.

אם לתהליך יש  $k$  שלבים:  $n_1$  אפשרויות לשלב הראשון,  $n_2$  אפשרויות לשלב השני...  $n_k$

אפשרויות לשלב  $k$ :

מספר האפשרויות לתהליך כולו יהיה:  $n_1 \cdot n_2 \cdot n_3 \cdots n_k$

למשל, כמה אפשרויות יש למשחק בו מטיילים קובייה וגם מטבע? (הסבר בהקלטה)

$$n_1 = 6, n_2 = 2$$

$$n_1 \cdot n_2 = 6 \cdot 2 = 12$$

למשל, כמה לוחיות רישוי בני 5 תווים ניתן ליצור כאשר התו הראשון הוא אות אנגלית והיתר ספרות? (הסבר בהקלטה)

$$n_1 = 26, n_2 = 10, n_3 = 10, n_4 = 10, n_5 = 10$$

$$n_1 \cdot n_2 \cdot n_3 \cdot n_4 \cdot n_5 = 26 \cdot 10 \cdot 10 \cdot 10 \cdot 10 = 260,000$$

## שאלות:

- (1) חשבו את מספר האפשרויות לתהליכים הבאים:
- הטלת קובייה פעמים.
  - מספר תלת ספרתי.
  - בחירת בן ובת מכתה שיש בה שבעה בנים ועשר בנות.
  - חלוקת שני פרסים שונים לעשרה אנשים שונים כאשר אדם לא יכול לקבל יותר מפרס אחד.
- (2) במסעדה מציעים ארוחה עסקית.
- בארוחה עסקית יש לבחור מנה ראשונה, מנה עיקרית ושתייה. האופציות למנה ראשונה הן: סלט ירקות, סלט אנטיפסטי ומרק היום. האופציות למנה עיקרית הן: סטייק אנטריקוט, חזה עוף בגריל, לזניה בשרית ולזניה צמחונית. האופציות לשתייה הן: קפה, תה ולימונדה.
- כמה ארוחות שונות ניתן להרכיב בעזרת התפריט הזה?
  - אדם מזמין ארוחה אקראית. חשב את ההסתברויות הבאות:
    - בארוחה סלט ירקות, לזניה בשרית ולימונדה.
    - בארוחה סלט, לזניה ותה.
- (3) בוחרים באקראי מספר בין חמש ספרות. חשבו את ההסתברויות הבאות:
- המספר הוא זוגי.
  - במספר כל הספרות שונות.
  - במספר כל הספרות זהות.
  - במספר לפחות שתי ספרות שונות.
  - במספר לפחות שתי ספות זהות.
  - המספר הוא פלינדרום (מספר הנקרא מימין ומשמאל באות הצורה).
- (4) חישה אנשים אקראיים נכנסו למעלית בבניין בן 8 קומות. חשבו את ההסתברויות הבאות:
- כולם ירו בקומה החמישית.
  - כולם ירדו באותה קומה.
  - כולם ירדו בקומה אחרת.
  - ערך ודני ירדו בקומה השישית והיתר בשאר הקומות.

- (5) במפלגה חמישה עשר חברי כנסת. יש לבחור שלושה חברי כנסת לשלושה תפקידים שונים. בכמה דרכים ניתן לחלק את התפקידים הבאים אם:
- חבר כנסת יכול למלא יותר מתפקיד אחד.
  - חבר כנסת לא יכול למלא יותר מתפקיד אחד.
- (6) מטילים קובייה 4 פעמים.
- מה ההסתברות שכל התוצאות תהינה זהות?
  - מה ההסתברות שכל התוצאות תהינה שונות?
  - מה ההסתברות שלפחות שתי תוצאות תהינה זהות?
  - מה ההסתברות שלפחות שתי תוצאות תהינה שונות?
- (7) יש ליצור מילה בת חמש אותיות, לא בהכרח עם משמעות מאותיות ה-ABC (26 אותיות).
- מה ההסתברות שבמילה שנוצרה אין האותיות A, D ו-L?
  - מה ההסתברות שבמילה שנוצרה כל האותיות זהות?
  - מה ההסתברות שבמילה שנוצרה לפחות שתי אותיות שונות זו מזו?
  - מה ההסתברות שהמילה היא פלינדרום? (מילה אשר משמאל לימין, ומימין לשמאל נקראת אותו הדבר).
- (8) יוצרים קוד עם a ספרות (מותר לחזור על אותה ספרה בקוד). חשבו את ההסתברויות הבאות: (בטאו את תשובותיכם באמצעות a).
- בקוד אין את הספרה 5.
  - בקוד מופיעה הספרה 3.
  - בקוד לא מופיעות ספרות אי זוגיות.
- (9) במשחק מזל יש למלא טופס בו n משבצות. כל משבצת מסומנת בסימן V או X. בכמה דרכים שונות ניתן למלא את טופס משחק המזל?

## תשובות סופיות:

- (1) א. 0.36    ב. 0.900    ג. 0.70    ד. 0.90
- (2) א. 0.36    ב. i.  $\frac{1}{36}$     ב. ii.  $\frac{1}{9}$
- (3) א. 0.5    ב. 0.3024    ג. 0.0001    ד. 0.9999    ה. 0.6976    ו. 0.01
- (4) א.  $\frac{1}{8^5}$     ב.  $\frac{1}{8^4}$     ג. 0.205    ד.  $\frac{1 \cdot 1 \cdot 7^3}{8^5}$
- (5) א. 0.3375    ב. 0.2730
- (6) א.  $\frac{1}{216}$     ב.  $\frac{5}{18}$     ג.  $\frac{13}{18}$     ד.  $\frac{215}{216}$
- (7) א.  $\frac{23^5}{26^5}$     ב.  $\frac{1}{26^4}$     ג.  $1 - \frac{1}{26^4}$     ד.  $\frac{1}{26^2}$
- (8) א.  $0.9^a$     ב.  $1 - 0.9^a$     ג.  $0.5^a$
- (9)  $2^n$

# מבוא להסתברות

פרק 4 - קומבינטוריקה - תמורה - סידור עצמים בשורה

תוכן העניינים

1. כללי ..... 18

## קומבינטוריקה – תמורה – סידור עצמים בשורה:

**רקע:**

**תמורה:**

מספר האפשרויות לסדר  $n$  עצמים שונים בשורה:  $n! = 1 \cdot 2 \cdot 3 \cdots (n-1) \cdot n$ .

הערה:  $0! = 1$ .

דוגמאות (הפתרונות בהקלטה):

- בכמה דרכים שונות ניתן לסדר את האותיות:  $a, b, c, d$ ?
- בכמה דרכים שונות ניתן לסדר את האותיות:  $a, b, c, d$ , כך שהאותיות:  $a, b$  יהיו ברצף?
- בכמה דרכים שונות ניתן לסדר את האותיות:  $a, b, c, d$ , כך שהאותיות:  $a, b$  יופיעו בתור הרצף  $ba$ ?

## שאלות:

- (1) חשבו : בכמה אופנים  
 א. אפשר לסדר 4 ספרים שונים על מדף?  
 ב. אפשר לסדר חמישה חיילים בטור?
- (2) סידרו באקראי 10 דיסקים שונים על מדף שמתוכם שניים בשפה העברית.  
 א. מה ההסתברות שהדיסקים בעברית יהיו צמודים זה לזה?  
 ב. מה ההסתברות שהדיסקים בעברית לא יהיו צמודים זה לזה?  
 ג. מה ההסתברות ששני הדיסקים בעברית יהיו כל אחד בקצה השני של המדף?
- (3) בוחנים 5 בנים ו-4 בנות בכיתה ומדרגים אותם לפי הציון שלהם בבחינה. נניח שאין תלמידים בעלי אותו ציון.  
 א. מהו מספר הדירוגים האפשריים?  
 ב. מהו מספר הדירוגים האפשריים אם מדרגים בנים ובנות בנפרד?
- (4) מסדרים 10 ספרים שונים על מדף.  
 א. בכמה אופנים ניתן לסדר את הספרים על המדף?  
 ב. שני ספרים מתוך ה-10 הם ספרים בסטטיסטיקה.  
 א. מה ההסתברות שאם נסדר את הספרים באקראי, הספרים בסטטיסטיקה יהיו צמודים זה לזה?  
 ב. מה ההסתברות שהספרים בסטטיסטיקה לא יהיו צמודים זה לזה?  
 ג. מה ההסתברות שהספרים בסטטיסטיקה יהיו בקצות המדף (כל ספר בקצה אחר)?
- (5) אדם יצר בנגן שלו פלייליסט (רשימת השמעה) של 12 שירים שונים. 4 בשפה העברית, 5 באנגלית ו-3 בצרפתית. האדם הריץ את הפלייליסט באקראי.  
 א. מה ההסתברות שכל השירים באנגלית יופיעו כשירים הראשונים כמקשה אחת?  
 ב. מה ההסתברות שכל השירים באנגלית יופיעו ברצף (לא חובה ראשונים)?  
 ג. מה ההסתברות ששירים באותה השפה יופיעו ברצף (כלומר כל השירים באנגלית ברצף, כל השירים בעברית ברצף וכך גם השירים בצרפתית)?

- 6) 4 בנים ו-4 בנות התיישבו באקראי בשורת כיסאות 1-8 בקולנוע.
- א. מה ההסתברות שיוסי ומיכל לא ישבו זה לצד זה?
- ב. מה ההסתברות שהבנים יתיישבו במקומות האי-זוגיים?
- ג. מה ההסתברות שכל הבנים ישבו זה לצד זה?
- ד. מה ההסתברות שהבנים ישבו זה לצד זה והבנות תשבנה זו לצד זו?

### תשובות סופיות:

- (1) א. 0.24      ב. 0.120
- (2) א. 0.2      ב. 0.8      ג. 0.022
- (3) א. 0.362880      ב. 0.2880
- (4) א. 0.3628800      ב. 0.2      ג. 0.8      ד.  $\frac{1}{45}$
- (5) א.  $\frac{1}{792}$       ב.  $\frac{1}{99}$       ג.  $\frac{1}{4620}$
- (6) א. 0.75      ב. 0.014      ג.  $\frac{1}{14}$       ד.  $\frac{1}{35}$

# מבוא להסתברות

פרק 5 - קומבינטוריקה - תמורה עם עצמים זהים

תוכן העניינים

1. כללי ..... 21

## קומבינטוריקה – תמורה עם עצמים זהים:

**רקע:**

**תמורה עם חזרות:**

אם יש בין העצמים שיש לסדר עצמים זהים, יש לבטל את הסידור הפנימי שלהם על ידי חלוקה בסידורים הפנימיים שלהם.

מספר האופנים לסדר  $n$  עצמים בשורה, ש- $n_1$  מהם זהים מסוג 1,  $n_2$  זהים מסוג 2

$$r\text{-}n_1 \text{ זהים מסוג } r : \frac{n!}{n_1! \cdot n_2! \cdot \dots \cdot n_r!}$$

דוגמה (תשובה בהקלטה):

כמה מילים ניתן ליצור מכל האותיות הבאות: W, W, T, T, K, K

## שאלות:

(1) במשחק יש לצבוע שתי משבצות מתוך המשבצות הבאות:

--	--	--	--	--

בכמה דרכים שונות ניתן לבצע את הצביעה?

(2) בכמה אופנים שונים אפשר לסדר בשורה את האותיות: ב, ע, ב, ע, ג?

(3) בבית נורות מקום ל-6 נורות. בחרו שתי נורות אדומות, שתי נורות צהובות ושתי נורות כחולות. כמה דרכים שונות יש לסדר את הנורות?

(4) נרצה ליצור מספר מכל הספרות הבאות: 1, 2, 2, 2, 6. כמה מספרים כאלה אפשר ליצור?

(5) במשחק בול פגיעה יש 10 משבצות, אדם צובע 4 משבצות מתוך ה-10. המשתתף השני צריך לנחש אילו 4 משבצות נצבעו. מה ההסתברות שבניחוש אחד יהיה בול פגיעה?

(6) כמה אותות שונים, שכל אחד מורכב מ-10 דגלים שונים, ניתן ליצור, אם 4 דגלים הם לבנים, 3 כחולים, 2 אדומים ואחד שחור. דגלים שווי צבע זהים זה לזה לחלוטין.

## תשובות סופיות:

(1) 10.

(2) 60.

(3) 90.

(4) 20.

(5)  $\frac{1}{210}$ .

(6) 12600.

# מבוא להסתברות

פרק 6 - קומבינטוריקה - סידור עצמים במעגל

תוכן העניינים

1. סידור עצמים במעגל ..... 23

## קומבינטוריקה – סידור עצמים במעגל:

רקע:

מספר האפשרויות לסדר  $n$  עצמים שונים במעגל בו אין מקומות מסומנים הוא:  $(n-1)!$ .

דוגמה (פתרון בהקלטה):

דנה, רמה ושדה רוצות ליצור מעגל ריקוד. בכמה דרכים שונות הן יכולות להחזיק אחת לשנייה את הידיים, כדי ליצור את המעגל?



## שאלות:

- (1) מעצב פנים יצר ללקחותיו מניפת צבעים המוצגת במעגל. במניפה 12 צבעים שונים מתוכם 3 בגווני אפור, 3 בגווני לבן, 3 בגווני ירוק ו-3 בגווני צהוב. כמה מניפות שונות ניתן ליצור כאשר:
- גווני האפור צמודים זה לזה.
  - צבעים באותו גוון צמודים זה לזה.



- (2) דני יוצר שרשרת חרוזים הבנויה מעשרה חרוזים בצבעים שונים. הוא משחיל את עשרת החרוזים באקראי. חשבו את ההסתברויות הבאות:
- הסידור יהיה בדיוק כמוראה בציר.
  - החרוז הלבן והכתום יהיו בסמוך זה לזה.

- (3) אבא הכין עוגת יומולדת עגולה. הוא סידר 7 נרות כמוראה בשרטוט. הנרות זהים ונבדלים זה בזה בצבע: 2 כחולים זהים, 2 אדומים זהים, 2 צהובים זהים ו-1 כתום. סידור הנרות נעשה באקראי. חשבו את ההסתברויות הבאות:



- הנרות הצהובים סמוכים זה לזה.
- נרות באותו צבע סמוכים זה לזה.

- (4)  $n$  בנים ו- $n$  בנות הסתדרו במעגל באקראי.



- מה הסיכוי שכל הבנים יסתדרו זה לצד זה בלי להתפצל?
- מה הסיכוי שכל הבנים יסתדרו זה לצד זה בלי להתפצל וגם כל הבנות יסתדרו זו לצד זו בלי להתפצל?
- מה הסיכוי שהסידור יהיה שמימין ומשמאל לכל בן תהיה בת?

## תשובות סופיות:

(1) א. 2177280 ב. 7776

(2) א.  $\frac{1}{9!}$  ב.  $\frac{2}{9}$

(3) א.  $\frac{1}{3}$  ב.  $\frac{1}{15}$

(4) א.  $\frac{(n!)^2}{(2n-1)!}$  ב.  $\frac{(n!)^2}{(2n-1)!}$  ג.  $\frac{(n-1)!(n!)}{(2n-1)!}$

# מבוא להסתברות

פרק 7 - קומבינטוריקה - דגימה סידורית ללא החזרה ועם החזרה

תוכן העניינים

1. כללי ..... 26

## קומבינטוריקה – דגימה סידורית ללא החזרה ועם החזרה:

**רקע:**

**מדגם סידור בדגימה עם החזרה:**

מספר האפשרויות בדגימת  $k$  עצמים מתוך  $n$  עצמים שונים כאשר הדגימה היא עם החזרה והמדגם סדור הוא:  $n^k$ .

דוגמה:

בוחרים שלושה תלמידים מתוך עשרה לייצג ועד בו תפקידים שונים, תלמיד יכול למלא יותר מתפקיד אחד.

כמה ועדים שונים ניתן להרכיב?  $10^3 = 1,000$ ,  $k = 3$ ,  $n = 10$ .

**מדגם סידור ללא החזרה:**

מספר האפשרויות בדגימת  $k$  עצמים שונים מתוך  $n$  עצמים שונים ( $n \geq k$ ) כאשר המדגם סדור ואין החזרה של עצמים נדגמים הינו:

$$\cdot (n)_k = n(n-1)(n-2)\dots(n-(k-1)) = \frac{n!}{(n-k)!}$$

דוגמה:

שלושה תלמידים נבחרים מתוך 10 לייצג וועד בו תפקידים שונים.

תלמיד לא יכול למלא יותר מתפקיד אחד:  $\frac{10!}{7!} = 10 \cdot 9 \cdot 8 = 720$ .

## שאלות:

- (1) במפלגה 20 חברי כנסת, מעוניינים לבחור שלושה חברי כנסת לשלושה תפקידים שונים.
- א. חבר כנסת יכול למלא יותר מתפקיד אחד.  
כמה קומבינציות ישנן לחלוקת התפקידים?
- ב. חבר כנסת לא יכול למלא יותר מתפקיד אחד.  
כמה קומבינציות יש לחלוקת התפקידים?
- (2) במשחק מזל יש 4 משבצות ממוספרות מ-A-D (A עד D). בכל משבצת יש למלא סיפרה (0-9). הזוכה הוא זה שניחש נכונה את כל הספרות בכל המשבצות בהתאמה.
- א. מה ההסתברות לזכות במשחק?  
ב. מה ההסתברות שבאף משבצת לא תהיה את הספרה 3 במספר הזוכה?  
ג. מה ההסתברות שהתוצאה 4 תופיע לפחות פעם אחת במספר הזוכה?
- (3) קבוצה מונה 22 אנשים, מה ההסתברות שלפחות לשניים מהם יהיה יום הולדת באותו התאריך?
- (4) שלושה אנשים קבעו להיפגש במלון הילטון בסינגפור. הבעיה היא שבסינגפור ישנם 5 מלונות הילטון.
- א. מה ההסתברות שכל השלושה ייפגשו?  
ב. מה ההסתברות שכל אחד יגיע לבית מלון אחר?
- (5) בכיתה 40 תלמידים. מעוניינים לבחור חמישה מהם לוועד כיתה. בכמה דרכים ניתן להרכיב את הוועד אם:
- א. בוועד 5 תפקידים שונים ותלמיד יכול למלא יותר מתפקיד אחד.  
ב. בוועד 5 תפקידים שונים ותלמיד לא יכול למלא יותר מתפקיד אחד.

## תשובות סופיות:

- (1) א. 8000      ב. 6840
- (2) א. 0.0001      ב. 0.6561      ג. 0.3439
- (3) 0.476
- (4) א. 0.04      ב. 0.48
- (5) א.  $40^5$       ב. 78,960,960

# מבוא להסתברות

פרק 8 - קומבינטוריקה - דגימה ללא סדר וללא החזרה

תוכן העניינים

1. כללי ..... 28

## קומבינטוריקה – דגימה ללא סדר וללא החזרה:

רקע:

מדגם לא סדור בדגימה ללא החזרה:

מספר האפשרויות לדגום  $k$  עצמים שונים מתוך  $n$  עצמים שונים כאשר אין

$$\text{משמעות לסדר העצמים הנדגמים ואין החזרה: } \frac{n!}{(n-k)!k!} = \binom{n}{k} = \frac{(n)_k}{k!}$$

דוגמה:

מתוך 10 תלמידים יש לבחור שלושה נציגים לוועד ללא תפקידים מוגדרים:

$$\binom{10}{3} = \frac{10!}{7!3!} = 120$$

הערות:

$$\binom{n}{k} = \binom{n}{n-k} \quad (1)$$

$$\binom{n}{n-1} = \binom{n}{1} = n \quad (2)$$

$$\binom{n}{n} = \binom{n}{0} = 1 \quad (3)$$

## שאלות:

- (1) בכיתה 15 בנות ו-10 בנים. יש לבחור 5 תלמידים שונים מהכיתה לנציגות הכיתה. בכמה דרכים אפשר להרכיב את הנציגות, אם:
- אין שום הגבלה לבחירה.
  - מעוניינים ש-3 בנות ו-2 בנים ירכיבו את המשלחת.
  - לא יהיו בנים במשלחת.
- (2) סטודנט מעוניין לבחור 5 קורסי בחירה בסמסטר זה. לפניו רשימה של 10 קורסים לבחירה: 5 במדעי הרוח, 3 במדעי החברה, 2 במתמטיקה.
- כמה בחירות שונות הוא יכול ליצור לעצמו?
  - כמה בחירות יש לו בהן 3 קורסים הם ממדעי הרוח?
  - כמה בחירות יש לו אם 2 מהן לא ממדעי הרוח?
  - כמה בחירות יש לו אם 2 ממדעי הרוח, 2 ממדעי החברה ו-1 ממתמטיקה?
- (3) בכיתה 30 תלמידים מתוכם 12 תלמידים ו-18 תלמידות. יש לבחור למשלחת 4 תלמידים מהכיתה. התלמידים נבחרים באקראי.
- מה ההסתברות שהמשלחת תורכב רק מבנות?
  - מה ההסתברות שבמשלחת תהיה רק בת אחת?
  - מה ההסתברות שבמשלחת תהיה לפחות בת אחת?
- (4) במשחק הלוטו יש לבחור 5 מספרים מתוך 45. המספרים הם 1-45.
- מה ההסתברות שבמשחק הזוכה כל המספרים הם זוגיים?
  - מה ההסתברות שבמספר הזוכה יש לכל היותר מספר זוגי אחד?
  - מה ההסתברות שבמספר הזוכה לפחות פעם אחת יש מספר זוגי?
  - מה ההסתברות שבמספר הזוכה כל המספרים גדולים מ-30?
- (5) בחפיסת קלפים ישנם 52 קלפים: 13 בצבע שחור בצורת עלה, 13 בצבע אדום בצורת לב, 13 בצבע אדום בצורת יהלום ו-13 בצבע שחור בצורת תלתן. מכל צורה (מתוך ה-4) יש 9 קלפים שמספרם 10-2, שאר הקלפים הם; נסיך, מלכה, מלך ואס (בעצם מדובר בקופסת קלפים רגילה ללא ג'וקר). שני אנשים משחקים פוקר. כל אחד מקבל באקראי 5 קלפים (ללא החזרה).
- מה ההסתברות שעודד יקבל את כל המלכים וערן את כל המלכות?
  - מה ההסתברות שאחד השחקנים יקבל את הקלף אס-לב?
  - מה ההסתברות שערן יקבל קלפים שחורים בלבד ועודד יקבל שני קלפים שחורים בדיוק?
  - מה ההסתברות שערן יקבל לפחות 3 קלפים שהם מספר (אס אינו מספר)?

- 6 במכללה 4 מסלולי לימוד. בכל מסלול לימוד 5 מזכירות. יש ליצור וועד של 5 מזכירות מתוך כלל המזכירות במכללה. יוצרים וועד באופן אקראי. חשבו את ההסתברויות הבאות:
- א. כל המזכירות בוועד יהיו ממסלול "מדעי ההתנהגות".  
 ב. כל המזכירות בוועד יהיו מאותו המסלול.  
 ג. מכל מסלול תבחר לפחות מזכירה אחת.

$$7 \quad \text{הוכיחו כי: } \binom{n}{k} + \binom{n}{k+1} = \binom{n+1}{k+1}$$

- 8  $2n$  בנים ו- $2n$  בנות מתחלקים ל-2 קבוצות.
- א. בכמה דרכים שונות ניתן לבצע את החלוקה אם שתי הקבוצות צריכות להיות שוות בגודלן ויש בכל קבוצה מספר שווה של בנים ובנות?  
 ב. בכמה דרכים ניתן לבצע את החלוקה אם יש מספר שווה של בנים ובנות בכל קבוצה אבל הקבוצות לא בהכרח בגודל שווה.

### תשובות סופיות:

- |                         |                         |           |   |
|-------------------------|-------------------------|-----------|---|
| א. 53130                | ב. 20475                | ג. 3003   | 1 |
| א. 252                  | ב. 100                  | ג. 100    | 2 |
| א. 0.1117               | ב. 0.1445               | ג. 0.9819 | 3 |
| א. 0.02                 | ב. 0.187                | ג. 0.972  | 4 |
| א. 0                    | ב. 0.1923               | ג. 0.009  | 5 |
| א. $6.45 \cdot 10^{-5}$ | ב. $2.58 \cdot 10^{-4}$ | ג. 0.3225 | 6 |
|                         |                         |           | 7 |
- שאלת הוכחה.

$$8 \quad \text{א. } \binom{2n}{n}^2 \quad \text{ב. } \sum_{i=1}^n \binom{2n}{i}^2$$

# מבוא להסתברות

פרק 9 - קומבינטוריקה - דגימה ללא סדר ועם החזרה

תוכן העניינים

1. כללי ..... 31

## קומבינטוריקה – דגימה ללא סדר ועם החזרה:

### רקע:

מספר האפשרויות לבחור  $k$  עצמים (לא בהכרח שונים) מתוך  $n$  עצמים שונים, ללא חשיבות לסדר העצמים הנדגמים, ועצם יכול להיבחר יותר מפעם אחת:

$$\binom{n+k-1}{k} = \binom{n+k-1}{n-1}$$

### דוגמה:

בכמה דרכים שונות ניתן לחלק 4 כדורים זהים לשלושה תאים שבכל תא יש מקום ליותר מכדור אחד? (פתרון והסבר הרעיון בהקלטה)

### סיכום כללי של המצבים האפשריים לדגימה:

מספר האפשרויות לבחירת $k$ עצמים מתוך אוכלוסייה של $n$ עצמים שונים		
ביצוע הדגימה	עם התחשבות בסדר הבחירה	ללא התחשבות בסדר הבחירה
עם החזרה	$n^k$	$\binom{n+k-1}{k} = \binom{n+k-1}{n-1}$
ללא החזרה	$(n)_k = \frac{n!}{(n-k)!}$	$\binom{n}{k} = \frac{n!}{k!(n-k)!}$

## שאלות:

- (1) בכמה דרכים יש להכניס 8 כדורים זהים לחמישה תאים כאשר תא יכול להכיל יותר מכדור אחד?
- (2) בכמה אופנים ניתן להכניס 5 מחברות זהות ל-3 תיקים שונים?
- (3) בכמה אופנים ניתן להכניס 8 כדורים לתוך 3 תאים שונים כאשר:  
 א. הכדורים זהים.  
 ב. הכדורים שונים זה מזה.
- (4) בכמה דרכים יש לסדר 10 משחקים ב-4 מגירות כאשר:  
 א. המשחקים שונים זה מזה.  
 ב. במשחקים זהים זה לזה.
- (5) מהו מספר הפתרונות השלמים האי שליליים למשוואה הבאה:  $X_1 + X_2 = 3$ .
- (6) מהו מספר הפתרונות השלמים האי-שליליים למשוואה הבאה:  
 $X_1 + X_2 + X_3 + X_4 = 20$ .
- (7) במכירה פומבית הוצגו 4 פמוטי זהב זהים לחלוטין. על קניית היצירות התחרו 3 אספנים. אספן יכול היה לרכוש יותר מפמוט אחד. בהנחה וכל הפמוטים נמכרו, כמה אפשרויות מכירה לאספנים השונים ישנן?
- (8) נתונות האותיות: A, B, C ו-D. נרצה לבחור שתי אותיות מתוך קבוצת האותיות הללו כאשר מותר לבחור אותה אות יותר מפעם אחת אבל אין חשיבות לסדר האותיות שנבחרו. כמה דרכים ישנן לבחירה?
- (9) במשחק הלוטו החדש יש לבחור ארבעה מספרים מתוך המספרים 1-20. אין חשיבות לסדר הפנימי של המספרים, אלא רק לגלות אילו מספרים עלו בגורל. מה הסיכוי לגלות את המספרים שעלו בגורל אם:  
 א. אסור לבחור את אותו מספר יותר מפעם אחת.  
 ב. מותר לחזור על אותו מספר יותר מפעם אחת.

- (10)** ישנם 5 כדורים להכניס ל-6 תאים.  
 חשבו את מספר האפשרויות להכנסת הכדורים כאשר:
- הכדורים שונים ותא יכול להכיל יותר מכדור אחד.
  - הכדורים זהים ותא יכול להכיל יותר מכדור אחד.
  - הכדורים שונים ותא לא יכול להכיל יותר מכדור אחד.
  - הכדורים זהים ותא לא יכול להכיל יותר מכדור אחד.

- (11)** ישנם  $k$  כדורים להכניס ל- $n$  תאים ( $n > k$ ).  
 חשבו את מספר האפשרויות להכנסת הכדורים כאשר:
- הכדורים שונים ותא יכול להכיל יותר מכדור אחד.
  - הכדורים זהים ותא יכול להכיל יותר מכדור אחד.
  - הכדורים שונים ותא לא יכול להכיל יותר מכדור אחד.
  - הכדורים זהים ותא לא יכול להכיל יותר מכדור אחד.

**תשובות סופיות:**

- (1) .495
- (2) .21
- (3) א. 45      ב. 6561
- (4) א.  $4^{10}$       ב. 286
- (5) .4
- (6) .1771
- (7) .15
- (8) .10
- (9) א.  $\frac{1}{4845}$       ב.  $\frac{1}{8855}$
- (10) א. 7776      ב. 252      ג. 720      ד. 6
- (11) א.  $n^k$       ב.  $\binom{n+k-1}{k} = \binom{n+k-1}{n-1}$       ג.  $\binom{n}{k} = \frac{n!}{(n-k)!}$       ד.  $\binom{n}{k} = \frac{n!}{k!(n-k)!}$

# מבוא להסתברות

פרק 10 - קומבינטוריקה - שאלות מסכמות

תוכן העניינים

1. כללי ..... 35

## קומבינטוריקה – שאלות מסכמות:

### שאלות:

- (1) בכיתה 40 תלמידים. מעוניינים לבחור חמישה מהם לוועד כיתה. בכמה דרכים ניתן להרכיב את הוועד אם:
- בוועד 5 תפקידים שונים ותלמיד יכול למלא יותר מתפקיד אחד.
  - בוועד 5 תפקידים שונים ותלמיד לא יכול למלא יותר מתפקיד אחד.
  - אין תפקידים שונים בוועד.
- (2) במשרד 30 עובדים, יש לבחור ארבעה עובדים למשלחת לחו"ל. בכמה דרכים ניתן להרכיב את המשלחת?
- במשלחת ארבע משימות שונות שיש למלא וכל עובד יכול למלא יותר ממשימה אחת.
  - כמו בסעיף א' רק הפעם עובד לא יכול למלא יותר ממשימה אחת.
  - מעוניינים לבחור ארבעה עובדים שונים למשלחת שבה לכולם אותו התפקיד.
- (3) מעוניינים להרכיב קוד סודי. הקוד מורכב מ-2 ספרות שונות ו-3 אותיות שונות באנגלית (26 אותיות אפשריות).
- כמה קודים שונים ניתן להרכיב?
  - כמה קודים שונים ניתן להרכיב אם הקוד מתחיל בספרה ונגמר בספרה?
  - כמה קודים ניתן להרכיב אם הספרות חייבות להיות צמודות זו לזו?
  - בכמה קודים הספרות לא מופיעות ברצף?
- (4) בארונית 4 מגירות. ילד התבקש על ידי אמו לסדר 6 משחקים בארונית. הילד מכניס את המשחקים באקראי למגירות השונות. כל מגירה יכולה להכיל את כל המשחקים יחד.
- מה ההסתברות שהילד יכניס את כל המשחקים למגירה העליונה?
  - מה ההסתברות שהילד יכניס את כל המשחקים לאותה מגירה?
  - מה ההסתברות ש"דומינו" יוכנס למגירה העליונה ויתר המשחקים לשאר המגירות.
  - מה ההסתברות ש"דומינו" לא יוכנס למגירה העליונה?

- 5) בעיר מסוימת מתמודדות למועצת העיר 4 מפלגות שונות: "הירוקים", "קדימה", "העבודה" ו"הליכוד". 6 אנשים אינם יודעים למי להצביע, ולכן בוחרים באקראי מפלגה כלשהי.
- מה ההסתברות שכל ה-6 יבחרו באותה מפלגה?
  - מה ההסתברות שמפלגת ה"ירוקים" לא תקבל קולות?
  - מה ההסתברות שמפלגת ה"ירוקים" תקבל בדיוק 3 קולות וכל מפלגה אחרת תקבל קול 1 בלבד?
  - מה ההסתברות שמפלגת "הירוקים" תקבל 2 קולות, מפלגת "העבודה" תקבל 2 קולות ומפלגת "הליכוד" תקבל 2 קולות?
- 6) 5 חברים נפגשו ורצו לראות סרט. לרשותם ספריה המונה 8 סרטים שונים. כל אחד התבקש לבחור סרט באקראי.
- מה ההסתברות שכולם יבחרו את אותו הסרט?
  - מה ההסתברות שכולם יבחרו את "הנוסע השמיני"?
  - מה ההסתברות שכל אחד יבחר סרט אחר?
  - מה הסיכוי שלפחות שניים יבחרו את אותו הסרט?
  - מה ההסתברות שיוסי וערן ייבחרו את "הנוסע השמיני" וכל השאר סרטים אחרים?
  - מה ההסתברות שהנוסע השמיני לא ייבחר על ידי אף אחד מהחברים?
  - לקחו את 8 הסרטים ויצרו מהם רשימה. נתון שברשימה 3 סרטי אימה, מה ההסתברות שברשימה שנוצרה יופיעו 3 סרטי האימה ברצף?
- 7) בקבוצה 10 אנשים. יש ליצור שתי וועדות שונות מתוך הקבוצה: אחת בת 4 אנשים והשנייה בת 3 אנשים. כל אדם יכול להיבחר רק לוועדה אחת. חשבו את מס' הדרכים השונות ליצירת הוועדות הללו כאשר:
- אין בוועדות תפקידים.
  - בכל וועדה יש תפקיד אחד של אחראי הוועדה.
  - בכל וועדה כל התפקידים שונים.
- 8) 4 גברים ו-3 נשים מתיישבים על כסאות בשורה של כסאות תיאטרון. בכל שורה 10 כסאות. בכמה דרכים שונות ניתן לבצע את ההושבה:
- ללא הגבלה.
  - כל הגברים ישבו זה ליד זה וגם כל הנשים תשבנה זו ליד זו.
  - שני גברים בקצה אחד ושני הגברים האחרים בקצה שני.
- 9) בהגרלה ישנם 10 מספרים מ-1 עד 10. נבחרו באקראי 5 מספרים. מה ההסתברות שהמספר 7 הוא השני בגודלו מבין המספרים שנבחרו?

- 10** 6 אנשים עלו לאוטובוס שעוצר ב-10 תחנות.  
 כל אדם בוחר באופן עצמאי ואקראי באיזו תחנה לרדת.  
 א. מה ההסתברות שכל אחד יורד בתחנה אחרת?  
 ב. מה ההסתברות שבדיוק 3 ירדו בתחנה החמישית?  
 ג. מה ההסתברות שרונית תרד בתחנה השנייה והשאר לא?  
 ד. מה ההסתברות שכולם ירדו בתחנות 5,6 ולפחות אחד בכל אחת מהתחנות הללו?

- 11** ברכבת 4 מקומות ישיבה עם כיוון הנסיעה 41 מקומות ישיבה נגד כיוון הנסיעה.



- 4 זוגות התיישבו במקומות אלו באקראי.  
 א. בכמה דרכים שונות ניתן להתיישב?  
 ב. מה ההסתברות שהזוג כהן ישבו זה לצד זה עם כיוון הנסיעה?  
 ג. מה ההסתברות שהזוג כהן ישבו זה לצד זה?  
 ד. מה ההסתברות שהזוג כהן ישבו כל אחד ליד החלון? (בכל שורה יש חלון).  
 ה. מה ההסתברות שהזוג כהן יישבו כך שכל אחד בכיוון נסיעה מנוגד?  
 ו. מה ההסתברות שהזוג כהן יישבו אחד מול השני פנים מול פנים.  
 ז. מה ההסתברות שכל הגברים ייסעו עם כיוון הנסיעה וכל הנשים תשבנה נגד כיוון הנסיעה?  
 ח. מה ההסתברות שכל זוג ישב אחד מול השני?

- 12** סיסמא מורכבת מ-5 תווים, תווים אלו יכולים להיות ספרה (0-9) ואותיות ה-ABC (26 אותיות). כל תו יכול לחזור על עצמו יותר מפעם אחת.  
 א. כמה סיסמאות שונות יש?  
 ב. כמה סיסמאות שונות יש שבהן כל התווים שונים?  
 ג. כמה סיסמאות שונות יש שבהן לפחות ספרה אחת ולפחות אות אחת?

- 13** מתוך קבוצה בת  $n$  אנשים רוצים לבחור 3 אנשים לוועדה. בכמה דרכים שונות ניתן לבצע את הבחירה? בטא את תשובתך באמצעות  $n$ .  
 א. בוועדה אין תפקידים ויש לבחור 3 אנשים שונים לוועדה.  
 ב. בוועדה תפקידים שונים. וכל אדם לא יכול למלא יותר מתפקיד אחת.  
 ג. בוועדה תפקידים שונים ואדם יכול למלא יותר מתפקיד אחד.

- 14** שני אנשים מטילים כל אחד מטבע  $n$  פעמים. בטאו באמצעות  $n$  את הסיכוי שלכל אחד מהם אותו מספר פעמים של התוצאה "ראש".

- 15** יוצרים קוד עם  $a$  ספרות (מותר לחזור על אותה ספרה בקוד).  
 חשבו את ההסתברויות הבאות (בטאו את תשובותיכם באמצעות  $a$ ):
- בקוד אין את הספרה 5.
  - בקוד מופיעה הספרה 3.
  - בקוד לא מופיעות ספרות אי זוגיות.
- 16** זוג קוביות הוטלו מספר פעמים. כמה פעמים יש להטיל את זוג הקוביות בכדי שבהסתברות של לפחות 0.5 תתקבל לפחות הטלה אחת (של הזוג) עם סכום תוצאות 12?
- 17** בוחרים באופן מקרי מספר בין 6 ספרות.
- מה הסיכוי שהספרה 5 תופיע בדיוק פעם אחת במספר?
  - מה הסיכוי שהספרה 4 תופיע לפחות פעם אחת וגם הספרה 0 תופיע לפחות פעם אחת במספר?
- 18** במשרד של דנה 5 תיקיות אותן היא מסדרת באקראי בטור. 3 תיקיות הן אדומות ו-2 תיקיות הן כחולות. דנה רשמה שני פתקים ושמה כל פתק במקום אקראי בין התיקיות (לכל פתק יש 4 אפשרויות למיקום).
- מה הסיכוי ששני הפתקים יהיו במקומות שונים?
  - מה הסיכוי שבין שני הפתקים יש שתי תיקיות אדומות ואין תיקיות כחולות?
  - מה הסיכוי שבין שני הפתקים יש בדיוק תיקיה אחת?
  - מה הסיכוי שבין שני הפתקים יש שתי תיקיות ואחת מהן כחולה?
- 19** לירון 6 עטים אותם הוא מכניס באקראי ל-3 קלמרים שונים. לכל עט הוא בוחר באופן מקרי קלמר.
- מה הסיכוי שיש בדיוק 2 קלמרים שבכל קלמר בדיוק 2 עטים?
  - מה הסיכוי שיש בדיוק קלמר אחד שבו בדיוק 2 עטים?
  - מה הסיכוי שיש בדיוק 3 קלמרים שבכל אחד בדיוק 2 עטים?
- 20** מסדרים  $n$  כדורים שונים ב  $n$  תאים שונים (תא יכול להכיל יותר מכדור אחד). מה הסיכוי שבתא  $i$  ( $1 \leq i \leq n$ ) יהיו בדיוק  $k$  כדורים?
- 21** בתחרות ריצה עלו לגמר 6 מתמודדים. רק בשלושת המקומות הראשונים זוכים במדליות. נניח שכל המתמודדים מסיימים את התחרות.
- כמה אפשרויות יש לסיים את התחרות?
  - כמה אפשרויות יש לכך שמתמודד מספר 6 יקבל מדליה?
  - כמה אפשרויות יש לכך שמתמודד מספר 6 יקבל מדליה או שמתמודד מספר 2 יקבל מדליית זהב?

**(22)** מטילים קובייה הוגנת  $k$  פעמים.

- א. מה הסיכוי שהתוצאה הכי גדולה שהתקבלה היא  $j$  ?
- ב. מה הסיכוי שהתוצאה הכי קטנה שהתקבלה היא  $i$  ?
- ג. עבור  $i \leq j$ , מה הסיכוי שהתוצאה הכי גדולה היא  $j$  וגם התוצאה הכי קטנה היא  $i$  ?

## תשובות סופיות:

- (1) א. 102,400,000    ב. 78,960,960    ג. 658008
- (2) א. 810,000    ב. 657,720    ג. 27,405
- (3) א. 14,040,000    ב. 1,404,000    ג. 5,616,000    ד. 8,424,000
- (4) א. 0.00024    ב. 0.00098    ג. 0.05933    ד. 0.75000
- (5) א. 0.00098    ב. 0.17798    ג. 0.02929    ד. 0.02197
- (6) א.  $\frac{1}{4096}$     ב.  $\frac{1}{32,768}$     ג. 0.205    ד. 0.795
- ה. 0.0105    ו. 0.5129    ז. 0.1071
- (7) א. 4,200    ב. 50,400    ג. 604,800
- (8) א. 604,800    ב. 2,880    ג. 2,880
- (9) 0.238
- (10) א. 0.1512    ב. 0.014    ג. 0.059    ד.  $\frac{62}{10^6}$
- (11) א. 40,320    ב. 0.1071    ג. 0.2142    ד. 0.0357  
ה. 0.5714    ו. 0.1429    ז. 0.0143    ח. 0.0095
- (12) א. 60,466,176    ב. 45,239,040    ג. 48,484,800
- (13) א.  $\frac{n!}{3!(n-3)}$     ב.  $n \cdot (n-1)(n-2)$     ג.  $n^3$
- (14)  $\frac{1}{4^n} \cdot \sum_{i=0}^n \binom{n}{i}^2$
- (15) א.  $0.9^a$     ב.  $1-0.9^a$     ג.  $0.5^a$
- (16) לפחות 25 פעמים.
- (17) א. 0.35721    ב. 0.1759
- (18) א. 0.75    ב. 0.075    ג. 0.375    ד. 0.15
- (19) א. 0    ב.  $\frac{450}{729}$     ג.  $\frac{90}{729}$
- (20)  $\frac{\binom{n}{k} (n-1)^{n-k}}{n^n}$
- (21) א. 720    ב. 360    ג. 432

$$(22) \quad \text{א. } \frac{j^k - (j-1)^k}{6^k} \quad \text{ב. } \frac{(7-i)^k - (6-i)^k}{6^k} \\ \text{ג. } \frac{(j-i+1)^k - 2 \cdot (j-i)^k + (j-i-1)^k}{6^k}$$

# מבוא להסתברות

פרק 11 - כלל ההכלה וההפרדה

תוכן העניינים

42 ..... 1. כלל ההכלה וההפרדה

## כלל ההכלה וההפרדה:

### רקע:

אנו מעוניינים בנוסחה לחישוב הסתברות של איחוד מאורעות. אם קיימים  $n$  מאורעות זרים בזוגות, הסיכוי לאיחוד המאורעות הוא סכום ההסתברויות של כלל המאורעות.

$$P\left(\bigcup_{i=1}^n A_i\right) = \sum_{i=1}^n P(A_i)$$

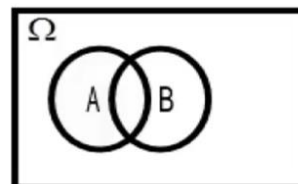


אם דנים במאורעות שאינם בהכרח זרים בזוגות, סכימת ההסתברויות של כלל המאורעות תוביל לספירה כפולה של חלק מהמאורעות. למשל: אדם מטיל קובייה. מה הסיכוי לקבל תוצאה זוגית או את התוצאה 2 לכל היותר?

בדוגמה שהוצגה לעיל מדובר בהסתברות לאיחוד שני מאורעות ומתקיים:

$$P(A_1 \cup A_2) = P(A_1) + P(A_2) - P(A_1 \cap A_2)$$

אפשר להמחיש זאת באמצעות דיאגרמת ון:

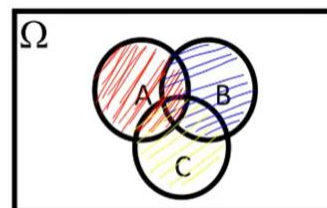


נוסחה זו היא נוסחת ההכלה וההפרדה לשני מאורעות.

במקרה של שלושה מאורעות נוסחת ההכלה וההפרדה תיראה כך:

$$P(A_1 \cup A_2 \cup A_3) = P(A_1) + P(A_2) + P(A_3) - P(A_1 \cap A_2) - P(A_1 \cap A_3) - P(A_2 \cap A_3) + P(A_1 \cap A_2 \cap A_3)$$

אפשר להמחיש זאת באמצעות דיאגרמת ון:



כעת נכליל את הנוסחה ל- $n$  מאורעות:

$$P\left(\bigcup_{i=1}^n A_i\right) = \sum_{i=1}^n P(A_i) - \sum_{i<j} P(A_i \cap A_j) + \sum_{i<j<k} P(A_i \cap A_j \cap A_k) \dots + (-1)^{n-1} P\left(\bigcap_{i=1}^n A_i\right)$$

**דוגמה (פתרון בהקלטה):**

מטילים חמש קוביות. מה ההסתברות שלפחות אחת מהתוצאות הבאות לא תתקבל באף אחת מהקוביות: 1, 2, 3, 4?

## שאלות:

(1) רני קיבלה ליום הולדתה חמש מתנות וסידרה אותן בשורה מימין לשמאל.



- א. מה ההסתברות שהמתנה העטופה בנייר מנוקד לא תהיה הראשונה בשורה והמתנה העטופה בסרט ירוק לא תהיה האחרונה בשורה?  
 ב. מה ההסתברות שלפחות אחד מהמאורעות הבאים יתרחש?  
 i. המתנה העטופה בנייר מנוקד לא תהיה השנייה בשורה.  
 ii. המתנה הקטנה ביותר לא תהיה השנייה בשורה.  
 iii. המתנה העטופה בנייר חום לא תהיה השלישית בשורה.

(2) אדם הטיל קובייה ארבע פעמים. נגדיר את המאורעות הבאים:



- A: התוצאה 1 התקבלה לפחות פעם אחת.  
 B: התוצאה 2 התקבלה לפחות פעם אחת.  
 C: התוצאה 3 התקבלה לפחות פעם אחת.

חשבו את ההסתברויות הבאות:

- א.  $P(A \cap B)$   
 ב.  $P(A \cap B \cap C)$

(3) מפזרים באופן מקרי חמישה כדורים בעשרה תאים. הכדורים ממוספרים מ-1 עד 5. אין הגבלה על מספר הכדורים בכל תא.



חשבו את ההסתברויות הבאות:

- א. לפחות אחד משני התאים השמאליים ריק.  
 ב. לפחות אחד משלושת התאים השמאליים ריק.  
 ג. שני התאים השמאליים תפוסים.  
 ד. ארבעת התאים השמאליים תפוסים.

(4) בוחרים מספר אקראי מהמספרים:  $\Omega = \{1, 2, \dots, 1000\}$ .  
 מה ההסתברות שהמספר שנבחר יתחלק לפחות באחד מהמספרים: 2, 3, 5?



(5) עשרה ילדי גן נתבקשו לבחור גיבור-על מרשימה של 14 גיבורי-על. אם כל ילד בוחר באקראי מתוך הרשימה ללא תלות בילדים אחרים, מה ההסתברות שבדיוק שישה גיבורי-על ייבחרו?

(6) ניסוי מקרי הוא בעל מרחב המדגם:  $\Omega = \{1, 2, 3, \dots\}$ .  
 (6)  $P(n)$  הוא ההסתברות לקבל את התוצאה  $n$  ממרחב המדגם. נתון ש:  $P(n) = A \cdot 0.5^n$ . כמו כן נתון ש-  $A$  הוא קבוע חיובי.  
 א. מצאו את ערכו של הפרמטר  $A$ .  
 ב. חשבו את:  $P(n > 6)$ .  
 ג. חשבו את הסיכוי שהתוצאה שתתקבל בניסוי תהיה אי-זוגית.

(7) יוצרים מספר בן 8 ספרות מהספרות:  $1, 2, \dots, 8$ . במספר שיוצרים כל ספרה מופיעה בדיוק פעם אחת.  
 א. מה ההסתברות שבמספר לא מופיעים הרצפים:  $12, 34, 56$ ?  
 ב. מה ההסתברות שבמספר מופיע לפחות אחד מהרצפים:  $123, 234, 567$ ?



(8) מסדרים בשורה שמונה נעליים שהן ארבעה זוגות. מה ההסתברות שלפחות שתי נעליים שהן זוג יהיו זו לצד זו בשורה?

(9) מפזרים באופן מקרי  $m$  כדורים ל- $n$  תאים שונים ( $m \geq n$ ). תא יכול להכיל גם יותר מכדור אחד. מצאו ביטוי להסתברות שבכל תא יהיה לפחות כדור אחד. אין צורך לפשט את הביטוי שקיבלתם.



(10) בכיתה יש  $n$  תלמידים, ולכל תלמיד יומן אישי. המורה אסף את היומנים של כל התלמידים. יום למחרת חילק לכל תלמיד יומן מהיומנים שאסף, אך החלוקה הייתה אקראית (תלמיד לא בהכרח קיבל את היומן האישי שלו).  
 א. מה ההסתברות שאף תלמיד לא קיבל את היומן האישי שלו?  
 ב. למה שואפת ההסתברות מהסעיף הקודם אם:  $n \rightarrow \infty$ ?



**11** על השולחן עשרה מסמכים. מכניסים כל מסמך לאחת משמונה תיקיות ריקות באופן אקראי. לכל תיקייה צבע אחר. אין הגבלה על מספר המסמכים שיכולים להימצא בכל אחת מהתיקיות.

א. מה ההסתברות שבתיקייה האדומה יהיו בדיוק שני מסמכים?

ב. מה ההסתברות שהתיקייה הצהובה תישאר ריקה וגם בתיקייה הירוקה יהיה לפחות מסמך אחד?

ג. מה ההסתברות שיהיו לפחות שש תיקיות ריקות?

ד. מה ההסתברות שיהיו בדיוק שתי תיקיות ריקות?

### תשובות סופיות:

(1) א. 0.65      ב.  $\frac{59}{60}$

(2) א. 0.233      ב.  $\frac{1}{12}$

(3) א. 0.8533      ב. 0.9565      ג. 0.1467      ד. 0.0096

(4) 0.734

(5) 0.1706

(6) א. 1      ב. 0.015625      ג.  $\frac{2}{3}$

(7) א. 0.6756      ב. 0.0496

(8) 0.6571

(9)  $1 - \frac{\sum_{i=1}^n \binom{n}{i} (n-i)^m \cdot (-1)^{i-1}}{n^m}$

(10) א.  $\sum_{i=2}^n \frac{(-1)^i}{i!}$       ב. 0.3679

(11) א. 0.2416      ב. 0.2068      ג. 0.00003      ד. 0.4286

# מבוא להסתברות

פרק 12 - הסתברות מותנית - מרחב מדגם אחיד

תוכן העניינים

1. כללי ..... 47

## הסתברות מותנית – במרחב מדגם אחיד:

**רקע:**

לעיתים אנו נדרשים לחשב הסתברות למאורע כלשהו כאשר ברשותנו אינפורמציה לגבי מאורע אחר. הסתברות מותנית הינה סיכוי להתרחשות מאורע כלשהו כאשר ידוע שמאורע אחר התרחש / לא התרחש.

ההסתברות של  $A$  בהינתן ש- $B$  כבר קרה:  $P(A|B)$ .

$$P(A|B) = \frac{|A \cap B|}{|B|} \quad \text{כשמרחב המדגם אחיד:}$$

דוגמה (פתרון בהקלטה):

נטיל קובייה.

נגדיר:

$A$  - התוצאה זוגית.

$B$  - התוצאה גדולה מ-3.

נרצה לחשב את:  $P(A|B)$ .

## שאלות:

- (1) נבחרה ספרה זוגית באקראי. מה הסיכוי שהספרה גדולה מ-6?
- (2) יוסי הטיל קובייה.  
מה הסיכוי שקיבל את התוצאה 4, אם ידוע שהתוצאה שהתקבלה זוגית?
- (3) הוטלו צמד קוביות. נגדיר:  
 $A$  - סכום התוצאות בשתי ההטלות הינו 7.  
 $B$  - מכפלת התוצאות 12.  
 חשבו את  $P(A|B)$ .
- (4) מטבע הוטל פעמיים.  
ידוע שהתקבל לכל היותר ראש אחד, מה הסיכוי שהתקבלו שני ראשים?
- (5) זוג קוביות הוטלו והתקבל שהתוצאות זהות.  
מה הסיכוי שלפחות אחת התוצאות 5?
- (6) זוג קוביות הוטלו והתקבל לפחות פעם אחת 4.  
מה הסיכוי שאחת התוצאות 5?
- (7) נבחרה משפחה בת שני ילדים, שמהם אחד הוא בן.  
מה ההסתברות שבמשפחה שני בנים בקרב הילדים?
- (8) נבחרה משפחה בת שלושה ילדים, ונתון שהילד האמצעי בן.  
מה הסיכוי שיש בנות בקרב הילדים?
- (9) בכיתה 6 בנים ו-7 בנות. נבחרו 4 ילדים מהכיתה.  
אם ידוע שנבחרו 2 בנים ו-2 בנות, מה הסיכוי שאלעד לא נבחר?
- (10) חמישה חברים יצאו לבית קולנוע והתיישבו זה לצד זה באקראי,  
בכיסאות מספר 5 עד 9. ידוע שערך ודין התיישבו זה ליד זה.  
מה ההסתברות שהם יושבים בכיסאות מספר 6 ו-7?

**תשובות סופיות:**

(1) 0.2

(2)  $\frac{1}{3}$

(3) 0.5

(4) 0

(5)  $\frac{1}{6}$

(6)  $\frac{2}{11}$

(7)  $\frac{1}{3}$

(8)  $\frac{3}{4}$

(9)  $\frac{2}{3}$

(10)  $\frac{1}{4}$

# מבוא להסתברות

פרק 13 - הסתברות מותנית - מרחב לא אחיד

תוכן העניינים

1. כללי ..... 50

## הסתברות מותנית – מרחב לא אחיד:

רקע:

הסיכוי שמאורע  $A$  יתרחש, בהינתן שמאורע  $B$  כבר קרה:  $P(A|B) = \frac{P(A \cap B)}{P(B)}$ .

במונה: הסיכוי לחיתוך של שני המאורעות, זה הנשאל וזה הנתון שהתרחש.  
 במכנה: הסיכוי למאורע נתון שהתרחש.

דוגמה (פתרון בהקלטה):

נבחרו משפחות שיש להם שתי מכוניות. ל-30% מהמשפחות הללו המכונית הישנה יותר היא מתוצרת אירופה ואצל 60% מהמשפחות הללו המכונית החדשה יותר מתוצרת אירופה. כמו כן, בקרב 15% מהמשפחות הללו שתי המכוניות הן מתוצרת אירופאית. אם המכונית הישנה של המשפחה היא אירופאית, מה ההסתברות שגם החדשה אירופאית?

## שאלות:

- (1) תלמיד ניגש בסמסטר לשני מבחנים: מבחן בכלכלה ומבחן בסטטיסטיקה. נגדיר את המאורעות הבאים:  
 A - לעבור את המבחן בסטטיסטיקה.  
 B - לעבור את המבחן בכלכלה.  
 כמו כן נתון שהסיכוי לעבור את המבחן בכלכלה הנו 0.8, הסיכוי לעבור את המבחן בסטטיסטיקה הנו 0.9 והסיכוי לעבור את שני המבחנים הנו 0.75.  
 חשבו את הסיכויים למאורעות הבאים:
- התלמיד עבר בסטטיסטיקה, מה ההסתברות שהוא עבר בכלכלה?
  - התלמיד עבר בכלכלה, מה ההסתברות שהוא עבר בסטטיסטיקה?
  - התלמיד עבר בכלכלה, מה ההסתברות שהוא נכשל בסטטיסטיקה?
  - התלמיד נכשל בסטטיסטיקה, מה ההסתברות שהוא נכשל בכלכלה?
  - התלמיד עבר לפחות מבחן אחד, מה ההסתברות שהוא יעבור את שניהם?
- (2) במדינה שתי חברות טלפון סלולארי: "סופט" ו"בל". 30% מהתושבים הבוגרים רשומים אצל חברת "בל", 60% מהתושבים הבוגרים רשומים אצל חברת "סופט" ול-15% מהתושבים הבוגרים אין טלפון סלולארי כלל.
- איזה אחוז מהתושבים הבוגרים רשומים אצל שתי החברות?
  - נבחר אדם שרשום אצל חברת "סופט", מה ההסתברות שהוא רשום גם אצל חברת "בל"?
  - אם אדם לא רשום אצל חברת "בל", מה ההסתברות שהוא כן רשום בחברת "סופט"?
  - אם אדם רשום אצל חברה אחת בלבד, מה ההסתברות שהוא רשום בחברת "סופט"?
- (3) במכללה שני חניונים: חניון קטן וחניון גדול. בשעה 08:00 יש סיכוי של 60% שבחניון הגדול יש מקום, סיכוי של 30% שבחניון הקטן יש מקום וסיכוי של 20% שבשני החניונים יש מקום.
- מה ההסתברות שיש מקום בשעה 08:00 רק בחניון הגדול של המכללה?
  - ידוע שבחניון הקטן יש מקום בשעה 08:00, מה הסיכוי שבחניון הגדול יש מקום?
  - אם בשעה 08:00 בחניון הגדול אין מקום, מה ההסתברות שבחניון הקטן יהיה מקום?
  - נתון שלפחות באחד מהחניונים יש מקום בשעה 08:00, מה ההסתברות שבחניון הגדול יש מקום?

4) נלקחו 200 שכירים ו-100 עצמאים. מתוך השכירים 20 הם אקדמאיים, ומתוך העצמאיים 30 הם אקדמאיים.

- א. בנו טבלת שכיחות משותפת לנתונים.
- ב. נבחר אדם אקראי מה ההסתברות שהוא שכיר?
- ג. מה ההסתברות שהוא שכיר ולא אקדמאי?
- ד. מה ההסתברות שהוא שכיר או אקדמאי?
- ה. אם האדם שנבחר הוא עצמאי מהי ההסתברות שהוא אקדמאי?
- ו. אם האדם שנבחר הוא לא אקדמאי, מה ההסתברות שהוא שכיר?

5) חברה מסוימת פרסמה את הנתונים הבאים לגבי האזרחים מעל גיל 21 :  
 40% מהאנשים מחזיקים כרטיס "ויזה", 52% מחזיקים כרטיס "ישראלכרט",  
 20% מחזיקים כרטיס "אמריקן אקספרס", 15% מחזיקים ויזה וגם ישראלכרט,  
 8% מחזיקים ישראלכרט וגם אמריקן אקספרס ו-7% מחזיקים כרטיס ויזה וגם אמריקן אקספרס. כמו כן, 5% מחזיקים בשלושת הכרטיסים הנ"ל.

- א. אם לאדם יש ויזה, מה הסיכוי שאין לו ישראלכרט?
- ב. אם לאדם שני כרטיסי אשראי, מה הסיכוי שאין לו ישראלכרט?
- ג. אם לאדם לפחות כרטיס אחד, מה הסיכוי שאין לו ישראלכרט?

## תשובות סופיות:

(1) א. 0.833    ב. 0.9375    ג. 0.0625    ד. 0.5    ה. 0.789

(2) א. 5%    ב. 0.0833    ג. 0.786    ד. 0.6875

(3) א. 0.4    ב.  $\frac{2}{3}$     ג. 0.25    ד.  $\frac{6}{7}$

(4) א. להלן טבלה:    ב.  $\frac{2}{3}$     ג. 0.6    ד.  $\frac{23}{30}$

סה"כ	לא אקדמאי	אקדמאי	
200	180	20	שכיר
100	70	30	עצמאי
300	250	50	סה"כ

ה. 0.3    ו. 0.72

(5) א. 0.625    ב. 0.133    ג. 0.402

# מבוא להסתברות

פרק 14 - דיאגרמת עצים - נוסחת בייס ונוסחת ההסתברות השלמה

תוכן העניינים

1. כללי ..... 54

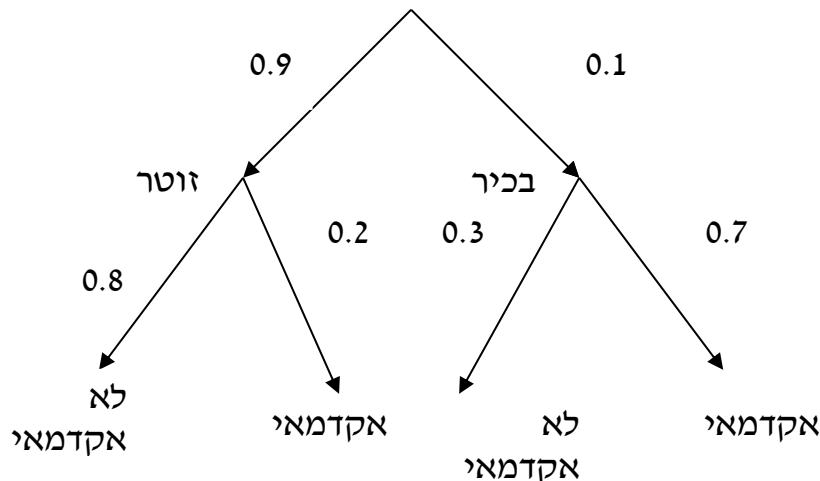
## דיאגרמת עצים – נוסחת בייס ונוסחת ההסתברות השלמה:

### רקע:

נשתמש בשיטה זו כאשר יש תרגיל שבו התרחשות המאורעות היא בשלבים, כך שכל תוצאה של כל שלב תלויה בשלב הקודם, פרט לשלב הראשון:

### דוגמה:

בחברה מסוימת 10% מוגדרים בכירים והיתר מוגדרים זוטרים. מבין הבכירים 70% הם אקדמאים ומבין הזוטרים 20% הם אקדמאים. נשרטט עץ שיתאר את הנתונים, השלב הראשון של העץ אינו מותנה בכלום ואילו השלב השני מותנה בשלב הראשון.



כדי לקבל את הסיכוי לענף מסוים נכפיל את כל ההסתברויות על אותו ענף. נבחר אדם באקראי מאותה חברה.

(1) מה הסיכוי שהוא בכיר אקדמאי ?  $0.1 \cdot 0.7 = 0.07$

(2) מה הסיכוי שהוא זוטר לא אקדמאי ?  $0.9 \cdot 0.8 = 0.72$

כדי לקבל את הסיכוי לכמה ענפים נחבר את הסיכויים של כל ענף (רק אחרי שבתוך הענף הכפלנו את ההסתברויות).

(3) מה הסיכוי שהוא אקדמאי ?  $0.1 \cdot 0.7 + 0.9 \cdot 0.2 = 0.25$

(4) נבחר אקדמאי מה ההסתברות שהוא עובד זוטר? מדובר כאן על שאלה בהסתברות מותנה ולכן נשתמש בעיקרון של הסתברות

$$P(zutar | academay) = \frac{0.9 \cdot 0.2}{0.25} = \frac{0.18}{0.25} = 0.72$$

מותנה:  $0.72$

### נוסחת ההסתברות השלמה:

בהינתן  $B$ , מאורע כלשהו, וחלוקה של מרחב המדגם  $\Omega$  ל- $A_1, \dots, A_n$  כך ש- $\bigcup_i A_i = \Omega$ ,

$$. P(B) = \sum_{i=1}^n P(A_i) \cdot P\left(\frac{B}{A_i}\right) \text{ אזי:}$$

### נוסחת בייס:

$$. P\left(\frac{A_j}{B}\right) = \frac{P(A_j)P\left(\frac{B}{A_j}\right)}{\sum_{i=1}^n P(A_i) \cdot P\left(\frac{B}{A_i}\right)}$$

## שאלות:

- (1) בשקית סוכריות 4 סוכריות תות ו-3 לימון. מוציאים באקראי סוכריה. אם היא בטעם תות אוכלים אותה ומוציאים סוכריה נוספת, ואם היא בטעם לימון מחזירים אותה לשקית ומוציאים סוכריה נוספת.
- א. מה ההסתברות שהסוכריה הראשונה שהוצאה בטעם תות והשנייה בטעם לימון?
- ב. מה ההסתברות שהסוכריה השנייה בטעם לימון?
- (2) באוכלוסייה מסוימת 30% הם ילדים, 50% בוגרים והיתר קשישים. לפי נתוני משרד הבריאות הסיכוי שילד יחלה בשפעת במשך החורף הוא 80%, הסיכוי שמבוגר יחלה בשפעת במשך החורף הוא 40% והסיכוי שקשיש יחלה בשפעת במשך החורף הוא 70%.
- א. איזה אחוז מהאוכלוסייה הינו קשישים שלא יחלו בשפעת במשך החורף?
- ב. מה אחוז האנשים שיחלו בשפעת במשך החורף?
- ג. נבחר אדם שחלה במשך החורף בשפעת, מה ההסתברות שהוא קשיש?
- ד. נבחר ילד, מה ההסתברות שהוא לא יחלה בשפעת במשך החורף?
- (3) בכד א' 5 כדורים כחולים ו-5 כדורים אדומים. בכד ב' 6 כדורים כחולים ו-4 כדורים אדומים. בוחרים באקראי כד, מוציאים ממנו כדור ומבלי להחזירו מוציאים כדור נוסף.
- א. מה ההסתברות ששני הכדורים שיוצאו יהיו בצבעים שונים?
- ב. אם הכדורים שהוצאו הם בצבעים שונים, מה ההסתברות שהכדור השני שהוצא יהיה בצבע אדום?
- (4) חברת סלולר מסווגת את לקוחותיה לפי 3 קבוצות גיל: נוער, בוגרים ופנסיונרים. נתון כי: 10% מהלקוחות בני נוער, 70% מהלקוחות בוגרים והיתר פנסיונרים. מתוך בני הנוער 90% מחזיקים בסמארט-פון, מתוך האוכלוסייה הבוגרת ל-70% יש סמארט-פון ומתוך אוכלוסיית הפנסיונרים 30% מחזיקים בסמארט-פון.
- א. איזה אחוז מלקוחות החברה הם בני נוער עם סמארט-פון?
- ב. נבחר לקוח אקראי ונתון שיש לו סמארט-פון. מה ההסתברות שהוא פנסיונר?
- ג. אם ללקוח אין סמארט-פון, מה ההסתברות שהוא לא בן נוער?

- (5) כדי להתקבל למקום עבודה יש לעבור שלושה מבחנים. המבחנים הם בשלבים, כלומר לאחר כישלון במבחן מסוים אין אפשרות לגשת למבחן הבא אחריו. 70% מהמועמדים עוברים את המבחן הראשון. מתוכם, 50% עוברים את המבחן השני. מבין אלה שעוברים את המבחן השני 40% עוברים את המבחן השלישי.
- א. מה ההסתברות להתקבל לעבודה?  
 ב. מועמד לא התקבל לעבודה. מה ההסתברות שהוא נכשל במבחן הראשון?  
 ג. מועמד לא התקבל לעבודה. מה ההסתברות שהוא עבר את המבחן השני?
- (6) משרד הבריאות פרסם את הנתונים הבאים:  
 מתוך אוכלוסיית הילדים והנוער 80% חולים בשפעת בזמן החורף.  
 מתוך אוכלוסיית המבוגרים (עד גיל 65) 60% חולים בשפעת בזמן החורף.  
 30% מהתושבים הם ילדים ונוער. 50% הם מבוגרים. היתר קשישים.  
 כמו כן נתון ש 68% מהאוכלוסייה תחלה בשפעת בחורף.
- א. מה אחוז החולים בשפעת בקרב האוכלוסייה הקשישה?  
 ב. נבחר אדם שלא חלה בשפעת, מה ההסתברות שהוא לא קשיש?
- (7) רדאר שנמצא על החוף צריך לקלוט אנייה הנמצאת ב-1 מ-4 האזורים: A, B, C, D. אם האנייה נמצאת באזור A הרדאר מזהה אותה בסיכוי 0.8, סיכוי זה פוחת ב-0.1 ככל שהאנייה מתקדמת באזור. כמו כן נתון שבהסתברות חצי האנייה נמצאת באזור D, בהסתברות 0.3 באזור C, באזור B היא נמצאת בסיכוי 0.2, אחרת היא נמצאת באזור A.
- א. מה הסיכוי שהאנייה תתגלה ע"י הרדאר?  
 ב. אם האנייה התגלתה ע"י הרדאר, מה ההסתברות שהיא נמצאת באזור C?  
 ג. אם האנייה התגלתה ע"י הרדאר, מה הסיכוי שהיא לא נמצאת באזור B?
- (8) סימפטום X מופיע בהסתברות של 0.4 במחלה A, בהסתברות של 0.6 במחלה B ובהסתברות של 0.5 במחלה C. סימפטום X מופיע אך ורק במחלות הללו, אדם לא יכול לחלות ביותר ממחלה אחת מבין המחלות הללו. לקליניקה מגיעים אנשים כדלקמן: 8% חולים במחלה A, 10% במחלה B, 2% במחלה C והיתר בריאים. כמו כן נתון שבמחלה A, סימפטום X מתגלה בסיכוי של 80%, ובמחלות B, C הסימפטום מתגלה בסיכוי של 90% בכל מחלה.
- א. מה ההסתברות שאדם הגיע לקליניקה וגילו אצלו את סימפטום X?  
 ב. אם התגלה אצל אדם סימפטום X, מה ההסתברות שהוא חולה במחלה A?  
 ג. אם לאדם יש את סימפטום X, מה ההסתברות שהוא חולה במחלה A?  
 ד. אם לא גילו אצל אדם את סימפטום X, מה ההסתברות שהוא בריא?

- (9) סטודנט ניגש למבחן אמריקאי. הסיכוי שהוא יודע תשובה לשאלה מסוימת הוא  $P$ , ואם הוא לא יודע את התשובה הוא מנחש. בכל מקרה הוא עונה על השאלה. נתון שלשאלה יש  $k$  תשובות אפשריות. אם הסטודנט ענה נכון על השאלה, מה הסיכוי שהוא ידע אותה?
- (10) אדם משחק נגד שני מתמודדים, רונית ודולב. האדם צריך לשחק שלושה משחקים ויש לו לבחור איזה סדר משחקים עדיף לו:
- דולב, רונית, דולב.
  - רונית, דולב, רונית.
- בכל משחק מישהו חייב לנצח(אין תיקו). האדם ינצח בטורניר רק אם ינצח בשני משחקים ברציפות. נתון שדולב שחקן טוב יותר מאשר רונית. איזו אפשרות עדיפה יותר על האדם כדי לנצח בטורניר?

### תשובות סופיות:

- |           |           |                    |                          |
|-----------|-----------|--------------------|--------------------------|
|           |           | ב. $\frac{23}{49}$ | א. $\frac{2}{7}$         |
|           |           | ב. 58%             | א. 6%                    |
| ד. 0.2    | ג. 0.241  | ב. 0.5             | א. 0.544                 |
|           |           | ב. 0.09375         | א. 9%                    |
|           | ג. 0.9722 | ב. 0.3488          | א. 0.14                  |
|           | ג. 0.2442 | ב. 0.8125          | א. 70%                   |
|           |           | ב. 0.3158          | א. 0.57                  |
|           | ג. 0.7543 | ב. 0.2889          | א. 0.0886                |
| ד. 0.8778 | ג. 0.3137 |                    |                          |
|           |           |                    | א. $\frac{kp}{1+p(k-1)}$ |
|           |           |                    | א. (10)                  |

# מבוא להסתברות

פרק 15 - תלות ואי תלות בין מאורעות

תוכן העניינים

1. אי תלות בין מאורעות ( מורחב) ..... 59

## תלות ואי תלות בין מאורעות:

### רקע:

אם מתקיים ש:  $P(B|A) = P(B)$ , נגיד שמאורע  $B$  בלתי תלוי ב- $A$ .

הדבר גורר גם ההפך:  $P(A|B) = P(A)$ , כלומר, גם  $A$  אינו תלוי ב- $B$ .

כשהמאורעות בלתי תלויים מתקיים ש:  $P(A \cap B) = P(A) \cdot P(B)$ .

הוכחה לכך:  $P(A/B) = P(A) = \frac{P(A \cap B)}{P(B)} \Rightarrow P(A \cap B) = P(A) \cdot P(B)$ .

נשתמש בנוסחאות של מאורעות בלתי תלויים רק אם נאמר במפורש שהמאורעות בלתי תלויים בתרגיל או שמהקשר אפשר להבין ללא צל של ספק שהמאורעות בלתי תלויים.

למשל,

חוקר מבצע שני ניסויים בלתי תלויים הסיכוי להצליח בניסוי הראשון הנו 0.7 והסיכוי להצליח בניסוי השני הוא 0.4.

א. מה הסיכוי להצליח בשני הניסויים יחדו?

כיוון שהמאורעות הללו בלתי תלויים:

$$P(A \cap B) = P(A) \cdot P(B) = 0.7 \cdot 0.4 = 0.28$$

ב. מה הסיכוי להיכשל בשני הניסויים?

באופן דומה:

$$P(\bar{A} \cap \bar{B}) = P(\bar{A}) \cdot P(\bar{B}) = (1 - 0.7)(1 - 0.4) = 0.18$$

### הרחבה: אי תלות בין $n$ מאורעות:

$n$  מאורעות  $A_1, \dots, A_n$  הם בלתי תלויים אם ורק אם:  $P\left(\bigcap_{i=1}^n A_i\right) = \prod_{i=1}^n P(A_i)$ .

## שאלות:

- (1) נתון:  $P(A) = 0.2$ ,  $P(B) = 0.5$ ,  $P(A \cup B) = 0.6$ .  
האם המאורעות הללו בלתי תלויים?
- (2) תלמיד ניגש לשני מבחנים שהצלחתם לא תלויה זו בזו. הסיכוי שלו להצליח במבחן הראשון הוא 0.7 והשני 0.4.  
א. מה הסיכוי להצליח בשני המבחנים יחדו?  
ב. מה הסיכוי שניכשל בשני המבחנים?
- (3) במדינה מסוימת יש 8% אבטלה, נבחרו באקראי שני אנשים מהמדינה.  
א. מה ההסתברות ששניהם מובטלים?  
ב. מה ההסתברות שלפחות אחד מהם מובטל?
- (4) מוצר צריך לעבור בהצלחה ארבע בדיקות בלתי תלויות לפני שיווקו, אחרת הוא נפסל ולא יוצא לשוק. הסיכוי לעבור בהצלחה כל אחת מהבדיקות הוא 0.8. בכל מקרה מבוצעות כל 4 הבדיקות.  
א. מה הסיכוי שהמוצר יפסל?  
ב. מה ההסתברות שהמוצר יעבור בהצלחה לפחות בדיקה אחת?
- (5) במדינה מסוימת יש 8% אבטלה, נבחרו באקראי חמישה אנשים מהמדינה.  
א. מה ההסתברות שכולם מובטלים במדגם?  
ב. מה ההסתברות שלפחות אחד מהם מובטל?
- (6) עבור שני מאורעות  $A$  ו- $B$  המוגדרים על אותו מרחב מדגם נתון ש:  
 $P(A|B) = 0.6$ ,  $P(A \cap \bar{B}) = 0.3$ ,  $P(A \cup B) = 0.9$ .  
האם  $A$  ו- $B$  מאורעות בלתי תלויים?
- (7) הוכיח שאם:  $P(A/B) = P(B/A)$ , אז:  $P(A) = P(B)$ .

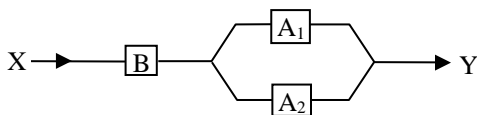
- 8 קבעו אילו מהטענות הבאות נכונות. נמק!
- א. אם :  $P(A \cup B) = P(A) \cdot P(B)$ , אזי המאורעות בלתי תלויים.
- ב. מאורע  $A$  כלול במאורע  $B$  :  $0 < P(B) < 1$ ,  $P(A) > 0$ , לכן :  $P(A/B) < P(A)$ .
- ג.  $A$  ו- $B$  מאורעות זרים שסיכוייהם חיוביים לכן הם מאורעות תלויים.
- ד.  $A$  ו- $B$  מאורעות תלויים שסיכוייהם חיוביים לכן  $A$  ו- $B$  מאורעות זרים.
- ה.  $\bar{P}(\bar{A} \cap \bar{B}) = 1 - P(A) - P(B)$  לכן  $A$  ו- $B$  מאורעות זרים.

- 9 זוג מעוניין להביא ילד לעולם, בבדיקה גנטית שהם עשו לאב התגלה שהאב אינו נשא של מחלה  $Q$ . מערכים את הסיכוי של האם להיות נשאית למחלץ  $Q$  להיות 0.2. אם האם נשאית היא תלד בכל פעם ילד חולה בסיכוי 0.5 באופן בלתי תלוי בין הלידות. האם ילדה שני ילדים. האם המאורעות "הילד הראשון בריא" ו-"הילד השני בריא" הם מאורעות בלתי תלויים?

- 10 מטילים פעמיים מטבע עם הסתברות  $p$  לעץ בכל הטלה,  $0 < p < 1$ .
- $A$  – יצא עץ בהטלה ראשונה.
- $B$  – יצאו תוצאות שונות.
- עבור איזה ערכים של  $p$  המאורעות  $A$  ו- $B$  בלתי תלויים?

- 11 הוכח אם  $A$  ו- $B$  בלתי תלויים, אזי  $\bar{A}$ ,  $\bar{B}$  בלתי תלויים.

- 12 נתונה מערכת חשמלית שבשרטוט, כל מתג יכול להיות פתוח או סגור בהסתברויות שונות, אך באופן בלתי תלוי זה בזה.



להלן ההסתברות של כל מתג להיות סגור :  
 $P(A_1) = 0.7$ ,  $P(A_2) = 0.8$ ,  $P(B) = 0.9$

- א. מה ההסתברות שיעבור זרם במערכת החשמלית?
- ב. אם לא עובר זרם במערכת, מה הסיכוי שמתג  $B$  סגור?

- 13 מטילים שתי קוביות הוגנות. נגדיר שלושה מאורעות :
- $A$  – תוצאה של קובייה ראשונה זוגית.
- $B$  – תוצאה של קובייה שניה אי זוגית.
- $C$  – סכום התוצאות של שתי הקוביות זוגי.
- האם המאורעות בלתי-תלויים?

14) ענה על הסעיפים הבאים :

א. המאורעות  $A$  ו- $B$  הם מאורעות זרים של ניסוי כלשהו. חוזרים על אותו ניסוי שוב באופן בלתי תלוי זה בזה. הוכיחו שהסיכוי שמאורע  $A$  יתרחש בניסוי לפני שמאורע  $B$  יתרחש

$$\frac{P(A)}{P(A)+P(B)}$$

בניסוי הוא :

ב. מטילים קובייה הוגנת פעם אחרי פעם, מה הסיכוי שתתקבל תוצאה זוגית עוד לפני שתתקבל התוצאה 3?

ג. מטילים קובייה הוגנת פעם אחרי פעם, מה הסיכוי שתתקבל תוצאה זוגית עוד לפני שתתקבל תוצאה גדולה מ-4?

### תשובות סופיות:

- 1) א. כן.
- 2) א. 0.28. ב. 0.18.
- 3) א. 0.0064. ב. 0.1536.
- 4) א. 0.5904. ב. 0.9984.
- 5) א.  $0.08^5$ . ב. 0.3409.
- 6) לא, הם תלויים.
- 7) שאלת הוכחה.
- 8) א. לא נכון. ב. לא נכון. ג. נכון. ד. לא נכון. ה. נכון.
- 9) תלויים.
- 10) 0.5.
- 11) שאלת הוכחה.
- 12) א. 0.846. ב. 0.3506.
- 13) תלויים.
- 14) א. שאלת הוכחה. ב.  $\frac{3}{4}$ . ג.  $\frac{1}{2}$ .

# מבוא להסתברות

פרק 16 - שאלות מסכמות בהסתברות

תוכן העניינים

1. כללי ..... 63

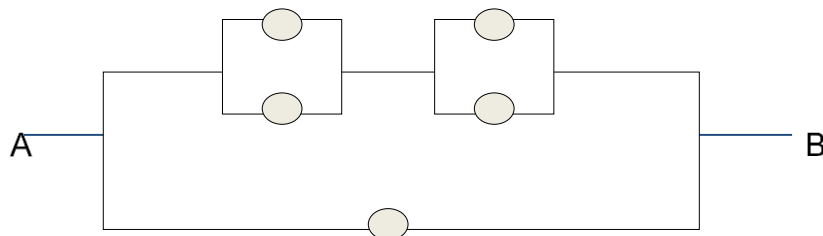
## שאלות מסכמות בהסתברות:

### שאלות:

- (1) נלקחו משפחות שיש להם שתי מכוניות. ל-30% מהמשפחות הללו המכונית הישנה יותר היא מתוצרת אירופה ואצל 60% מהמשפחות הללו המכונית החדשה יותר מתוצרת אירופה. כמו כן 15% מהמשפחות הללו שתי המכוניות הן מתוצרת אירופאית.
- א. מה ההסתברות שמשפחה אקראית בת שתי מכוניות תהיה ללא מכוניות מתוצרת אירופה?
- ב. מה ההסתברות שלפחות מכונית אחת תהיה אירופאית?
- ג. ידוע שלמשפחה יש מכונית אירופאית.
- מה ההסתברות שרק המכונית החדשה שלה היא מתוצרת אירופאית?
- ד. אם המכונית הישנה של המשפחה היא אירופאית, מה ההסתברות שגם החדשה אירופאית?
- (2) במדינת "שומקום" 50% מהחלב במרכולים מיוצר במחלבה א', 40% במחלבה ב' והיתר במחלבה ג'. 3% מתוצרת מחלבה א' מגיעה חמוצה למרכולים ואילו במחלבה ב' 10%.
- כמו כן ידוע שבמדינת "שומקום" בסך הכול 7.5% מהחלב חמוץ.
- א. איזה אחוז מהחלב שמגיע למרכול ממחלבה ג' חמוץ?
- ב. אם נרכש חלב חמוץ במרכול. מה הסיכוי שהוא יוצר במחלבה ג'?
- ג. ברכישת חלב נמצא שהוא אינו חמוץ. מה הסיכוי שהוא יוצר במחלבה א'?
- ד. האם המאורעות: "חלב חמוץ" ו-"יוצר במחלבה א'" בלתי תלויים?
- (3) רוני ורונה יצאו לבלות במרכז בילויים עם מספר אפשרויות בילוי: בהסתברות של 0.3 הם ייצאו לבאולינג, בהסתברות של 0.5 הם ייצאו לבית קפה ובהסתברות של 0.7 הם ייצאו לפחות לאחד מהם (באולינג/קפה).
- א. מה ההסתברות שהם יצאו רק לבאולינג?
- ב. האם המאורעות "לצאת לבאולינג" ו-"לצאת לבית קפה" זרים?
- ג. האם המאורעות "לצאת לבאולינג" ו-"לצאת לבית קפה" תלויים?
- ד. מה ההסתברות שיום אחד הם יצאו רק לבאולינג וביום למחרת לא יצאו לאף אחד מהמקומות?

- 4) 70% מהנבחנים בסטטיסטיקה עוברים את מועד א'. כל מי שלא עובר את מועד א' ניגש לעשות מועד ב', מתוכם 80% עוברים אותו. מבין אלה שנכשלים בשני המועדים 50% נרשמים לקורס מחדש, והיתר פורשים מהתואר.
- מה הסיכוי שסטודנט אקראי עבר את הקורס?
  - אם סטודנט אקראי עבר הקורס, מה הסיכוי שעבר במועד ב'?
  - מה אחוז הסטודנטים שפורשים מהתואר?
  - נבחרו 2 סטודנטים אקראיים רונית וינאי, מה ההסתברות שרונית עברה במועד א' ושינאי עבר במועד ב'?
- 5) באוכלוסייה מסוימת 40% הם גברים והיתר הן נשים. מבין הגברים 10% מובטלים. בסך הכול 13% מהאוכלוסייה מובטלת.
- מה אחוז האבטלה בקרב הנשים?
  - נבחר אדם מובטל, מה ההסתברות שזו אישה?
  - נגדיר את המאורעות הבאים: A - נבחר אדם מובטל, B - נבחר גבר. האם המאורעות הללו זרים? והאם הם בלתי תלויים?
- 6) בתיבה 10 מטבעות, מתוכם 7 מטבעות רגילים (ראש, זנב) ו-3 מטבעות שבשני צדדיהם טבוע ראש. אדם בוחר באקראי מטבע ומטיל אותו פעמיים. נסמן ב-A את ההטלה הראשונה ראש וב-B את ההטלה השנייה ראש.
- חשבו את הסיכויים למאורעות A ו-B.
  - האם המאורע A ו-B בלתי תלויים?
  - ידוע שבהטלה הראשונה התקבל ראש, מה ההסתברות שהמטבע שהוטל הוא מטבע הוגן?
- 7) ערן מעוניין למכור את רכבו והוא מפרסם מודעה באינטרנט ומודעה בעיתון. מבין אלה שמעוניינים לרכוש רכב משומש 30% יראו את המודעה באינטרנט, 50% יראו את המודעה בעיתון ו-72% יראו את המודעה בלפחות אחת מהמדיות.
- מה אחוז האנשים, מאלה שמעוניינים לרכוש רכב משומש, שיראו את 2 המודעות?
  - אם אדם ראה את המודעה באינטרנט, מה ההסתברות שהוא לא ראה את המודעה בעיתון?
  - האם המאורעות: "לראות את המודעה באינטרנט" ו-"לראות את המודעה בעיתון" בלתי תלויים?
  - אדם שראה את המודעה באינטרנט בלבד יתקשר לערן בהסתברות של 0.7, אם הוא ראה את המודעה בעיתון בלבד הוא יתקשר לערן בהסתברות של 0.6 ואם הוא ראה את שתי המודעות הוא יתקשר לערן בהסתברות של 0.9.
    - מה ההסתברות שאדם המעוניין לרכוש רכב משומש יתקשר לערן?
    - אדם המעוניין לרכוש רכב משומש התקשר לערן. מה ההסתברות שהוא ראה את שתי המודעות?

8) נתונה המערכת החשמלית הבאה :



כל יחידה עובדת באופן בלתי תלוי ובהסתברות  $p$ .  
 כדי שהמערכת תפעל צריך לעבור זרם מהנקודה  $A$  לנקודה  $B$ .  
 הוכיחו שהסיכוי שהמערכת תפעל הוא:  $P + (1 - P)(2P - P^2)^2$ .

9) ליאת מעוניינת לתרגל לבחינה בהסתברות. היא מצאה באינטרנט מאגר הכולל 25 שאלות מבחינות. השאלות ממוספרות ו-6 מתוכן עוסקות במשתנה מקרי רציף. ליאת החליטה לבחור באקראי 7 שאלות מהמאגר במטרה לפתור אותן. כל שאלה שלא עוסקת במשתנה הרציף תיפתר על ידי מיכל בסיכוי של 90%, אך אם השאלה עוסקת במשתנה הרציף היא תיפתר בסיכוי של 60%.  
 א. מה הסיכוי שהשאלות שנבחרו הן כולן ממוספרות בסדר עוקב?  
 ב. מה הסיכוי ששאלה 20 היא השאלה עם המספור המקסימלי מבין השאלות שנבחרו?  
 ג. ידוע שליאת בחרה 2 שאלות שעוסקות במשתנה הרציף והיתר לא. מה הסיכוי שתצליח לפתור 6 מתוך השאלות שבחרה?

10) נתונים שלושה מאורעות:  $A$ ,  $B$  ו- $C$ . ידוע ש:  $P(A|B) = 1$ ,  $P(A|C) = 1$ .  
 תנו דוגמא ספציפית למאורעות:  $A$ ,  $B$  ו- $C$  שבה המאורעות  $B$  ו- $C$  תלויים.

11) הוכיחו או הפריכו (על ידי דוגמה נגדית) את הטענה הבאה:  
 אם  $A$  ו- $B$  בלתי תלויים, אז  $A$  ו- $\bar{B}$  בלתי תלויים.

12) משחקים משחק מזל פעמיים, כך שבכל משחק בודד יש אפשרות לנצח או להפסיד. הסיכוי לנצח בכל משחק הוא  $P$  כאשר:  $0 < P < 1$ .  
 נגדיר את המאורעות הבאים:  
 $A$  - תוצאות המשחקים שונות זו מזו.  
 $B$  - המשחק הראשון היה ניצחון.  
 מה ערכו של  $P$ , עבורו  $A$  ו- $B$  יהיו מאורעות בלתי תלויים?

**13** טל מניח בשורה  $N$  קוביות בצבעים שונים. בין שתי קוביות אקראיות כלשהן ערן מניח מכחול. הוכיחו שהסיכוי שהקובייה הכחולה והאדומה יהיו בצדדים

$$\text{שונים של המכחול הוא: } \frac{N+1}{3(N-1)}$$

**14** הוכיחו באמצעות אינדוקציה את אי שוויון בול:  $P\left(\bigcup_{i=1}^n A_i\right) \leq \sum_{i=1}^n P(A_i)$ .

## תשובות סופיות:

- (1) א. 0.25    ב. 0.75    ג. 0.6    ד. 0.5
- (2) א. 0.2    ב. 0.267    ג. 0.524    ד. תלויים.
- (3) א. 0.2    ב. אינם זרים.    ג. תלויים.    ד. 0.06
- (4) א. 0.94    ב. 0.255    ג. 0.03    ד. 0.168
- (5) א. 15%    ב. 0.692    ג. לא זרים ותלויים.
- (6) א. 0.65    ב. תלויים.    ג. 0.5384
- (7) א. 8%    ב. 0.733    ג. תלויים.
- ד. i. 0.478    ד. ii. 0.15
- (8) שאלת הוכחה.
- (9) א.  $\frac{19}{480,700}$     ב.  $\frac{27,132}{480,700}$     ג. 0.4015
- (10) ראו סרטון.
- (11) שאלת הוכחה.
- (12)  $\frac{1}{2}$
- (13) שאלת הוכחה.
- (14) שאלת הוכחה.

# מבוא להסתברות

פרק 17 - המשתנה המקרי הברידי - פונקציית ההסתברות

תוכן העניינים

1. כללי ..... 68

## המשתנה המקרי הבדיד – פונקציית ההסתברות:

**רקע:**

**משתנה מקרי בדיד:**

משתנה מקרי בדיד הינו משתנה היכול לקבל כמה ערכים בודדים בהסתברויות שונות.

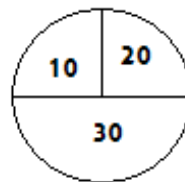
מתארים את המשתנה המקרי על ידי פונקציית ההסתברות.

**פונקציית ההסתברות:**

פונקציה המתאימה לכל ערך אפשרי של המשתנה את ההסתברות שלה. סכום ההסתברויות על פונקציית ההסתברות חייב להיות 1.

דוגמה (פתרון בהקלטה):

בקזינו יש רולטה כמתואר בשרטוט:



אדם מסובב את הרולטה וזוכה בסכום הרשום על הרולטה בש"ח. בנו את פונקציית ההסתברות של סכום הזכייה במשחק בודד.

## שאלות:

- (1) ידוע שביישוב מסוים התפלגות מספר המכוניות למשפחה היא:
- 50 משפחות אינן מחזיקות במכונית.
  - 70 משפחות עם מכונית אחת.
  - 60 משפחות עם 2 מכוניות.
  - 20 משפחות עם 3 מכוניות.
- בוחרים באקראי משפחה מהיישוב, נגדיר את  $X$  להיות מספר המכוניות של המשפחה שנבחרה. בנו את פונקציית ההסתברות של  $X$ .
- (2) מהאותיות:  $A, B, C$  יוצרים קוד דו תווי.
- א. כמה קודים ניתן ליצור?
  - ב. רשמו את כל הקודים האפשריים.
  - ג. נגדיר את  $X$  להיות מספר הפעמים שהאות  $B$  מופיעה בקוד.
- בנו את פונקציית ההסתברות של  $X$ .
- (3) תלמיד ניגש בסמסטר לשני מבחנים: מבחן בכלכלה ומבחן בסטטיסטיקה. כמו כן, נתון שהסיכוי לעבור את המבחן בכלכלה הנו 0.8, הסיכוי לעבור את המבחן בסטטיסטיקה הנו 0.9 והסיכוי לעבור את שני המבחנים הנו 0.75. יהי  $X$  מספר המבחנים שהסטודנט עבר. בנו את פונקציית ההסתברות של  $X$ .
- (4) הסיכוי לזכות במשחק מסוים הינו 0.3. אדם משחק את המשחק עד אשר הוא מנצח אך בכל מקרה הוא לא משחק את המשחק יותר מ-4 פעמים. נגדיר את  $X$  להיות מספר הפעמים שהוא שיחק את המשחק. בנו את פונקציית ההסתברות של  $X$ .
- (5) חברה לניהול פרויקטים מנהלת 3 פרויקטים במקביל. הסיכוי שפרויקט א' יצליח הינו 0.7, הסיכוי שפרויקט ב' יצליח הינו 0.8, והסיכוי שפרויקט ג' יצליח הינו 0.9. נתון שהצלחת כל פרויקט בלתי תלויה זו בזו. נגדיר את  $X$  להיות מספר הפרויקטים שיצליחו. בנו את פונקציית ההסתברות של  $X$ .
- (6) להלן פונקציית ההסתברות של משתנה מקרי כלשהו:  $k = 1, 2, \dots, 4$ ,  $P(X = k) = \frac{k}{A}$ . מצאו את ערכו של  $A$ .

- (7) בגן ילדים 8 ילדים, מתוכם 5 בנים ו-3 בנות. בוחרים באקראי 3 ילדים להשתתף בהצגה. נגדיר את  $X$  כמספר הבנים שנבחרו להצגה. בנו את פונקציית ההסתברות של  $X$ .
- (8) בסקר שנערך בדקו בקרב אנשים האם הם צופים במהדורת החדשות של ערוצים 1,2,10. להלן הנתונים:
- 20% צופים בערוץ 2.
  - 8% צופים בערוץ 1.
  - 10% צופים בערוץ 10.
- כמו כן נתון ש 1% צופים בשלושת המהדורות גם יחד. 10% צופים בשתי המהדורות מתוך השלושה. נגדיר את  $X$  להיות מספר המהדורות מבין 3 המהדורות המדוברות שאדם אקראי צופה. בנו את פונקציית ההסתברות של  $X$ .

## תשובות סופיות:

(1) להלן טבלה:

3	2	1	0	$X$
0.1	0.3	0.35	0.25	$P(X)$

(2) להלן טבלה:

2	1	0	$X$
$\frac{1}{9}$	$\frac{4}{9}$	$\frac{4}{9}$	$P(X)$

(3) להלן טבלה:

2	1	0	$X$
0.75	0.20	0.05	$P(X)$

(4) להלן טבלה:

4	3	2	1	$X$
0.343	0.147	0.21	0.3	$P(X)$

(5) להלן טבלה:

3	2	1	0	$X$
0.504	0.398	0.092	0.006	$P(X)$

(6) 10.

(7) להלן טבלה:

4	3	2	1	$X$
$\frac{10}{56}$	$\frac{30}{56}$	$\frac{15}{56}$	$\frac{1}{56}$	$P(X)$

(8) להלן טבלה:

4	3	2	1	$X$
0.01	0.1	0.15	0.74	$P(X)$

# מבוא להסתברות

פרק 18 - המשתנה המקרי הברידי - תוחלת - שונות וסטיית תקן

תוכן העניינים

1. כללי ..... 72

## המשתנה המקרי הבדיד – תוחלת, שונות וסטיית תקן:

**רקע:**

**תוחלת:**

ממוצע של פונקציית ההסתברות, אם נבצע את התהליך אינסוף פעמים כמה בממוצע נקבל. התוחלת היא צפי של המשתנה המקרי.

$$E(X) = \sum_i x_i P(x_i) = \mu \quad \text{באופן הבא:}$$

**שונות:**

תוחלת ריבועי הסטיות מהתוחלת – נותן אינדיקציה על הפיזור והסיכון של פונקציית ההסתברות.

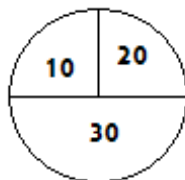
$$V(X) = \sum_i (x_i - \mu)^2 P(x_i) = \sum_i x_i^2 P(x_i) - \mu^2 = \sigma^2 \quad \text{באופן הבא:}$$

**סטיית תקן:**

שורש של השונות – הפיזור הממוצע הצפוי סביב התוחלת. מסמנים:  $STD = \sigma$ .

**דוגמה:**

בקזינו רולטה כמוראה בשרטוט. אדם מסובב את הרולטה וזוכה בסכום הרשום על הרולטה ב-ש. הסתברות לקבלת הסכומים השונים:



30	20	10	$X$
0.5	0.25	0.25	$P(X)$

$$E(X) = 10 \cdot 0.25 + 20 \cdot 0.25 + 30 \cdot 0.5 = 22.5 = \mu$$

$$V(X) = \sum_i (x_i - \mu)^2 P(x_i) =$$

$$= (10 - 22.5)^2 \cdot 0.25 + (20 - 22.5)^2 \cdot 0.25 + (30 - 22.5)^2 \cdot 0.5 = 68.75 = \sigma^2$$

$$\sigma_x = \sqrt{V(X)} = \sqrt{68.75} = 8.29 \quad \text{כדי לחשב את סטיית התקן נוציא שורש לשונות:}$$

## שאלות:

- (1) אדם משחק במשחק מזל. נגדיר את  $X$  להיות סכום הזכייה. להלן פונקציית ההסתברות של  $X$ :

40	20	0	-30	$X$
0.2	0.3	0.1	0.4	$P(X)$

מהי התוחלת, השונות וסטית התקן של  $X$ ?

- (2) בישוב מסוים שני סניפי בנק: בנק פועלים ובנק לאומי. מתוך האוכלוסייה הבוגרת בישוב, ל-50% חשבון בנק בסניף הפועלים, ל-40% חשבון בנק בסניף לאומי ול-20% מהתושבים הבוגרים אין חשבון באף אחד מהסניפים. יהי  $X$  מס' סניפי הבנק שלבוגר בישוב יש בהם חשבון. חשבו את:  $E(X)$ .

- (3) ידוע של-20% מהמשפחות יש חיבור לווייני בביתם. בסקר אדם מחפש לראיין משפחה המחוברת ללוויין. הוא מטלפן באקראי למשפחה וממשיך עד אשר הוא מגיע למשפחה המחוברת ללוויין. בכל מקרה הסוקר לא יתקשר ליותר מ-5 משפחות. נגדיר את  $X$  להיות מספר המשפחות שאליהן האדם יתקשר. א. בנו את פונקציית ההסתברות של  $X$ . ב. חשבו את התוחלת וסטית התקן של  $X$ .

- (4) לאדם צרור מפתחות. בצרור 5 מפתחות אשר רק אחד מתאים לדלת של ביתו. האדם מנסה את המפתחות באופן מקרי. לאחר שניסה מפתח מסוים הוא מוציא אותו מהצרור כדי שלא ישתמש בו שוב. נסמן ב- $X$  את מספר הניסיונות עד שהדלת תפתח. א. בנו את פונקציית ההסתברות של  $X$ . ב. חשבו את התוחלת והשונות של  $X$ .

5) נתונה פונקציית ההסתברות של המשתנה המקרי  $X$ :

8	6	4	2	$X$
0.2		0.3		$E(X)$

כמו כן נתון ש:  $E(X) = 4.2$ .

א. מצאו את ההסתברויות החסרות בטבלה.

ב. חשבו את:  $V(X)$ .

6) משתנה מקרי בדיד מקבל את הערכים 5-0 ו-5. נתון שהתוחלת של המשתנה 0 ושהשונות היא 10. מצא את פונקציית ההסתברות.

7) להלן ההתפלגות של משתנה מקרי:

$X$	$P$
1	$\frac{1}{4}$
3	$\frac{1}{2}$
$K$	$\frac{1}{4}$

מהו הערך שייתן ערך מינימלי לשונות של  $X$ ?

### תשובות סופיות:

(1) תוחלת: 2, שונות: 796.

(2) 0.9.

(3) א. ראו סרטון. ב. תוחלת: 3.36, סטיית תקן: 1.603.

(4) א. ראו טבלה: ב. תוחלת: 3, שונות: 2.

5	4	3	2	1	$X$
0.2	0.2	0.2	0.2	0.2	$P(X)$

(5) א. ראו טבלה: ב. 5.16.

8	6	4	2	$X$
0.2	0.1	0.3	0.4	$P(X)$

(6) ראו טבלה:

5	0	-5	$X$
0.2	0.6	0.2	$P(X)$

(7) 2.33.

# מבוא להסתברות

פרק 19 - המשתנה המקרי הברידי - טרנספורמציה לינארית

תוכן העניינים

1. כללי ..... 76

## המשתנה המקרי הבדיד – טרנספורמציה לינארית:

### רקע:

טרנספורמציה לינארית היא מצב שבו מבצעים הכפלה של קבוע ו/או הוספה של קבוע על המשתנה המקורי (כולל גם חלוקה של קבוע והחסרה של קבוע).

בניסוח מתמטי נאמר כי אם משתנה אקראי  $Y$  מיוצג ע"י משתנה אקראי  $X$  כאשר  $a, b$  הם קבועים כלשהם:  $Y = aX + b$ , אזי מתקיימים:

$$E(Y) = aE(X) + b \quad (1)$$

$$V(Y) = a^2 \cdot V(X) \quad (2)$$

$$\sigma_Y = |a| \sigma_X \quad (3)$$

### שלבי העבודה:

- (1) נזהה שמדובר בטרנספורמציה לינארית (שינוי קבוע לכל התצפיות).
- (2) נרשום את כלל הטרנספורמציה לפי נתוני השאלה.
- (3) נפשט את הכלל ונזהה את ערכי  $a$  ו- $b$ .
- (4) נציב בנוסחאות שלעיל בהתאם למדדים שנשאלים.

דוגמה – הרולטה:

בהמשך לנתוני שאלת הרולטה נתון שעלות השתתפות במשחק 15 ₪. מהי התוחלת והשונויות של הרווח במשחק?

פתרון (בהקלטה):

$$\text{חישבנו קודם ש: } E(X) = 22.5 = \mu, \quad V(X) = 68.75 = \sigma^2$$

**שאלות:**

(1) סטודנט ניגש ל-5 קורסים הסמסטר. נניח שכל קורס שסטודנט מסיים מזכה אותו ב-4 נקודות אקדמאיות. חשבו את התוחלת והשונות של סך הנקודות שיצבור הסטודנט כאשר נתון שתוחלת מספר הקורסים שיסיים היא 3.5 עם שונות 2.

(2) תוחלת סכום הזכייה במשחק מזל הינה 10 עם שונות 3. הוחלט להכפיל את סכום הזכייה במשחק. עלות השתתפות במשחק הינה 12. מה התוחלת ומהי השונות של הרווח במשחק?

(3) תוחלת של משתנה מקרי הינה 10 וסטית התקן 5. הוחלט להוסיף 2 למשתנה ולאחר מכן להעלות אותו ב-10%. מהי התוחלת ומהי סטיית התקן לאחר השינוי?

(4)  $X$  הינו משתנה מקרי. כמו כן נתון ש- $E(X) = 4$  ו- $V(X) = 3$ .  
 $Y$  הינו משתנה מקרי חדש, עבורו:  $Y = 7 - X$ . חשבו את:  $E(Y)$  ו- $V(Y)$ .

(5) אדם החליט לבטח את רכבו; שווי הרכב 100,000 ₪. להלן התביעות האפשריות והסתברותן: בהסתברות של 0.001 תהיה תביעה טוטאלוסט (כל שווי הרכב). בהסתברות של 0.02 תהיה תביעה בשווי מחצית משווי הרכב. בהסתברות של 5% תהיה תביעה בשווי רבע משווי הרכב. אחרת אין תביעה בכלל. החברה מאפשרת תביעה אחת בשנה. נסמן ב- $X$  את גובה התביעה השנתית, באלפי ₪.  
א. בנו את פונקציית ההסתברות של  $X$ .  
ב. חשבו את התוחלת והשונות של גובה התביעה.  
ג. פרמיית הביטוח היא 4,000 ₪.  
מהי התוחלת ומהי השונות של רווח חברת הביטוח לביטוח הרכב הנייל?

(6) יהי  $X$  מספר התשובות הנכונות במבחן בו 10 שאלות. פונקציית ההסתברות של  $X$  נתונה בטבלה הבאה:

10	9	8	7	6	5	$X$
		0.3	0.2	0.2	0.1	$P(X)$

כמו כן, נתון שצפי מספר התשובות הנכונות בבחינה הוא 7.35.

- א. השלימו את פונקציית ההסתברות.
  - ב. חשבו את השונות מספר התשובות הנכונות בבחינה.
  - ג. הציון בבחינה מחושב באופן הבא:
- כל שאלה נכונה מזכה ב-10 נקודות. לכל שאלה שגויה, מופחתת נקודה. מהי התוחלת ומה השונות של הציון בבחינה?

(7) להלן פונקציית הסתברות של משתנה מקרי כלשהו:  $P(X = k) = \frac{k}{A}$ ,  $k = 1, 2, \dots, 4$

א. מצא את ערכו של  $A$ .

ב. חשב את התוחלת והשונות של המשתנה הנחקר.

ג. חשב את:  $E(X^3)$ .

ד. חשב את התוחלת והשונות של המשתנה הבא:  $\frac{X}{2} - 4$ .

### תשובות סופיות:

(1) תוחלת: 14, שונות: 32.

(2) תוחלת: 8, שונות: 12.

(3) תוחלת: 13.2, סטיית תקן: 5.5.

(4) תוחלת: 3, שונות: 3.

(5) א. להלן טבלה: ב. תוחלת: 2350, שונות:  $85,727.5^2$ .

0	25	50	100	$X$
0.929	0.05	0.02	0.001	$P(X)$

ג. תוחלת: 1650, שונות:  $85,727.5^2$ .

(6) ב.  $V(X) = 1.8275$ .

(7) א.  $A = 10$ . ב.  $E(X) = 3$ ,  $V(X) = 1$ . ג.  $E(X^3) = 35.4$ ,  $V(X^3) = 616.84$ .

ד.  $E(Y) = -2.5$ ,  $V(Y) = 0.25$ .

# מבוא להסתברות

פרק 20 - תוחלת ושונויות של סכום משתנים מקריים

תוכן העניינים

79 ..... 1. כללי

## תוחלת ושונות של סכום משתנים מקריים:

---

**רקע:**

אם:  $X_1, X_2, \dots, X_n$  משתנים מקריים אזי:

$$E(T) = E(X_1 + X_2 + \dots + X_n) = E(X_1) + E(X_2) + \dots + E(X_n)$$

אם:  $X_1, X_2, \dots, X_n$  משתנים מקריים בלתי תלויים בזוגות, אזי:

$$V(T) = V(X_1 + X_2 + \dots + X_n) = V(X_1) + V(X_2) + \dots + V(X_n)$$

**דוגמה:**

אדם משחק בשני משחקי מזל בלתי תלויים. תוחלת סכות הזכייה של המשחק הראשון היא 7 עם סטיית תקן 3. תוחלת סכום הזכייה של המשחק השני היא 2- עם סטיית תקן 4. מה התוחלת ומהי השונות של סכום הזכייה הכולל של שני המשחקים יחד?

## שאלות:

(1) הרווח ממניה א' הוא עם תוחלת של 5 ושונות 10. הרווח ממניה ב' הוא עם תוחלת של 4 ושונות. ידוע שההשקעות של שתי המניות בלתי תלויות זו בזו. מה התוחלת והשונות של הרווח הכולל מהשקעה בשתי המניות יחד?

(2)  $X$  ו- $Y$  הם משתנים בלתי תלויים, סטיית התקן של  $X$  היא 3. סטיית התקן של  $Y$  היא 4. מהי סטיית התקן של  $X+Y$ ?

(3) אדם משחק בשני משחקי מזל בלתי תלויים זה בזה:  $X$  - סכום הזכייה במשחק הראשון.  $Y$  - סכום הזכייה במשחק השני. נתון:

$$\sigma(X) = 3, \quad E(x) = 10$$

$$\sigma(Y) = 4, \quad E(y) = 12$$

מהי התוחלת ומהי סטיית התקן של סכום הזכייה בשני המשחקים?

(4) ברולטה הסיכוי לזכות ב-30 ש"ח הוא חצי, ב-10 ש"ח רבע וכך גם ב-20 ש"ח. מה היא התוחלת והשונות של סכום הזכייה הכולל לאדם המשחק ברולטה 4 פעמים?

(5) נתון משתנה מקרי בעל פונקציית ההסתברות הבאה:

$$K = 2, 3, 4, 5, \quad P(X = K) = \frac{A}{K-1}$$

$$0 \text{ אחר } t$$

מצאו את ערכו של  $A$ .

א. חשבו את התוחלת והשונות של  $X$ .

ב. נלקחו  $n$  משתנים מקריים בלתי תלויים מההתפלגות הנ"ל. בטאו באמצעות  $n$  את תוחלת והשונות של סכום המשתנים.

**תשובות סופיות:**

- (1) תוחלת: 9, שונות: 15.
- (2) 5.
- (3) תוחלת: 22, שונות: 5.
- (4) תוחלת: 90, שונות: 275.
- (5) א.  $A = \frac{12}{25} = 0.48$ . ב. תוחלת: 2.92, שונות: 1.1136.
- ג. תוחלת: 2.92, שונות:  $1.1136n$ .

# מבוא להסתברות

פרק 21 - התפלגויות בדידות מיוחדות - התפלגות בינומית

תוכן העניינים

1. כללי ..... 82

## התפלגויות בדידות מיוחדות – התפלגות בינומית:

### רקע:

נגדיר את המושג ניסוי ברנולי:  
 ניסוי ברנולי הנו ניסוי שיש לו שתי תוצאות אפשריות: "הצלחה" ו"כישלון".  
 למשל מוצר פגום או תקין, אדם עובד או מובטל, עץ או פלי בהטלת מטבע וכדומה.  
 בהתפלגות בינומית חוזרים על אותו ניסוי ברנולי  $n$  פעמים באופן בלתי תלוי זה בזה.  
 מגדירים את  $X$  להיות מספר ההצלחות שהתקבלו בסך הכול. נסמן ב- $P$  את הסיכוי  
 להצלחה בניסוי בודד, וב- $Q$  את הסיכוי לכישלון בניסוי בודד.  
 ואז נגיד ש:  $X \sim B(n, p)$ .

### פונקציית ההסתברות של $X$ :

$$P(X = K) = \binom{n}{k} p^k (1-p)^{n-k} \quad k = 0, 1, 2, \dots, n$$

$$\binom{n}{k} = \frac{n!}{k!(n-k)!}; \quad n! = n \cdot (n-1) \cdot (n-2) \cdot \dots \cdot 1; \quad 0! = 1$$

לגודל:  $\binom{n}{k}$ : ניתן לחשב באמצעות המחשבון.

$$E(X) = np \quad \text{תוחלת:}$$

$$V(X) = npq \quad \text{שונות:}$$

שימו לב, כדי לזהות שמדובר בהתפלגות בינומית צריכים להתקיים כל התנאים הבאים:

- (1) חוזרים על אותו ניסוי ברנולי באופן בלתי תלוי זה בזה.
- (2) חוזרים על הניסוי  $n$  פעמים.
- (3)  $X$  – מוגדר כמספר ההצלחות המתקבלות בסך הכול.

דוגמה (פתרון בהקלטה):

במדינה מסוימת ל-80% מהתושבים יש רישיון נהיגה.  
 נבחרו 10 תושבים אקראיים מהמדינה.

- א. מה ההסתברות שבדיוק ל-9 מהם יש רישיון נהיגה?
- ב. מה ההסתברות שלפחות ל-9 מהם יש רישיון נהיגה?
- ג. מהי התוחלת ומהי סטיית התקן של מספר התושבים שנדגמו ושיש להם רישיון נהיגה?

**שאלות:**

- (1) במדינה 10% מהאוכלוסייה מובטלת. נבחרו 5 אנשים באקראי מאותה אוכלוסייה. נגדיר את  $X$  להיות מספר המובטלים שהתקבלו במדגם.
- מהי ההתפלגות של  $X$  ?
  - מה ההסתברות שיהיה בדיוק מובטל אחד?
  - מה ההסתברות שכולם יעבדו במדגם?
  - מה ההסתברות שלושה יעבדו במדגם?
  - מה ההסתברות שלפחות אחד יהיה מובטל?
  - מה תוחלת ומהי השונות של מספר המובטלים במדגם?
- (2) על פי נתוני משרד התקשורת ל-70% מהאוכלוסייה יש סמארטפון. נבחרו 10 אנשים באקראי. נגדיר את  $X$  כמספר האנשים שנדגמו עם סמארטפון.
- מהי ההתפלגות של  $X$  ? הסבירו.
  - מה ההסתברות שבמדגם ל-8 אנשים יש סמארט-פון?
  - מה ההסתברות שבמדגם לפחות ל-9 יהיו סמארט-פון?
  - מה התוחלת ומה סטיית התקן של מספר האנשים שנדגמו ולהם סמארט-פון?
- (3) בבית הימורים יש שורה של 6 מכונות מזל מאותו סוג. משחק במכונת מזל כזו עולה 5 ₪. ההסתברות לזכות ב-20 ₪ בכל אחת מהמכונות היא 0.1 וההסתברות להפסיד את ההשקעה היא 0.9 בכל מכונה. מהמר נכנס לבית ההימורים ומכניס 5 ₪ לכל אחת מ-6 המכונות.
- מה ההסתברות שיפסיד בכל המכונות?
  - מה ההסתברות שיזכה בדיוק בשתי מכונות?
  - מה ההסתברות שיזכה ביותר כסף מה-30 ₪ שהשקיע?
  - מהן התוחלת וסטיית התקן של הרווח נטו של המהמר (הזכיות בניכוי ההשקעה)?
- (4) במדינה מסוימת התפלגות ההשכלה בקרב האוכלוסייה מעל גיל 30 היא כזו:

השכלה	נמוכה	תיכונית	תואר I	תואר II ומעלה
פרופורציה	0.1	0.6	0.2	0.1

- נבחרו 20 אנשים אקראיים מעל גיל 30.
- מה ההסתברות ש-5 מהם אקדמאים?
  - מה התוחלת של מס' בעלי ההשכלה הנמוכה?

- (5) במכללה מסוימת 20% מהסטודנטים גרים בת"א. מבין הסטודנטים שגרים בת"א 30% מגיעים ברכבם, ומבין הסטודנטים שלא גרים בת"א 50% מגיעים ברכבם למכללה.
- א. השומר בשער המכללה בודק לכל סטודנט את תיקו בהיכנסו למכללה. מה ההסתברות שבקרב 5 סטודנטים שנבדקו ע"י השומר רק 1 מתוכם הגיע למכללה ברכבו?
- ב. בהמשך לסעיף הקודם מה ההסתברות שרוב הסטודנטים בקרב ה-5 הגיעו למכללה ברכבם?
- (6) במבחן אמריקאי 20 שאלות. סטודנט ניגש למבחן והסיכוי שהוא יודע שאלה כלשהי הוא 0.8. אם הוא לא יודע הוא מנחש את התשובה. לכל שאלה 4 תשובות אפשריות שרק אחת מהן נכונה.
- א. מה הסיכוי לענות על שאלה מסוימת נכון?
- ב. מה הסיכוי שיענה נכונה על בדיוק 16 שאלות?
- ג. על כל שאלה שענה נכון התלמיד מקבל 5 נקודות, על כל שאלה ששגה מופחתת נקודה, מה התוחלת ומהי השונות של ציון התלמיד?
- (7) 5% מקו היצור פגום. המוצרים נארזים בתוך קופסת קרטון. בכל קופסא 10 מוצרים שונים. הקופסאות נארזות בתוך מכולה. בכל מכולה 20 קופסאות.
- א. מה ההסתברות שבקופסא אקראית לפחות מוצר פגום אחד?
- ב. מה התוחלת ומהי סטיית התקן של מספר הקופסאות במכולה בהן לפחות מוצר פגום אחד?
- (8) מטבע הוגן מוטל 5 פעמים. נגדיר את  $X$  כמספר הפעמים שהתקבל עץ. חשבו את:  $E(X^2)$ .

## תשובות סופיות:

- (1) א.  $X \sim B(n=5, p=0.1)$     ב. 0.32805    ג. 0.59049  
 ד. 0.0729    ה. 0.40954    ו. תוחלת: 0.5, שונות: 0.45
- (2) א. 0.2335    ב. 0.1493    ג. 0.1493    ד. תוחלת: 7, סטיית תקן: 1.449
- (3) א. 0.5314    ב. 0.0984    ג. 0.1143    ד. תוחלת: -18, סטיית תקן: 14.697
- (4) א. 0.1789    ב. 2
- (5) א. 0.1956    ב. 0.4253
- (6) א. 0.85    ב. 0.182    ג. תוחלת: 82, שונות: 91.8
- (7) א. 0.401    ב. תוחלת: 8.025, סטיית תקן: 2.193
- (8) 7.5

# מבוא להסתברות

פרק 22 - התפלגויות בדידות מיוחדות - התפלגות גיאומטרית

תוכן העניינים

1. כללי ..... 86

## התפלגויות בדידות מיוחדות – התפלגות גיאומטרית:

### רקע:

חוזרים באופן בלתי תלוי על אותו ניסוי ברנולי.  
 $X$  – מוגדר להיות מספר הניסויים שבוצעו עד ההצלחה הראשונה, כולל.  
 נסמן ב- $p$  את הסיכוי להצלחה בניסויי בודד וב- $q$  את הסיכוי לכישלון בניסוי בודד.  
 $X \sim G(p)$

**פונקציית ההסתברות:**  $P(X = k) = pq^{k-1}$ ,  $k = 1, 2, \dots, \infty$ .

**תוחלת:**  $E(X) = \frac{1}{p}$

**שונות:**  $V(X) = \frac{q}{p^2}$

### תכונות חשובות:

אם  $X$  מתפלג על פי התפלגות גיאומטרית, אזי  $X$  הוא בעל תכונת חוסר זיכרון,  
 דהיינו,  $P(X > k) = q^k \cdot P(X = (n+k) / X > k) = P(X = n)$ .

דוגמה (פתרון בהקלטה):

בכד 10 כדורים ש-3 מהם ירוקים. אדם מוציא באקראי כדור אחר כדור עד שבידו כדור ירוק. ההוצאה היא עם החזרת הכדור לכד בכל פעם מחדש.

- מהי ההתפלגות של מספר הכדורים שהוצאו?
- מה ההסתברות שהוצאו בדיוק 5 כדורים?
- מה ההסתברות שהוצאו יותר מ-5 כדורים?
- אם הוצאו יותר מ-3 כדורים, מה הסיכוי שהוצאו בדיוק 5 כדורים?
- מה התוחלת וסטיית התקן של מספר הכדורים שהוצאו?

## שאלות:

- (1) קו ייצור המוני מייצר מוצרים כך ש-5% מהם פגומים. איש בקרת איכות דוגם באופן מקרי מוצרים מקו הייצור עד אשר בידו מוצר פגום. חשבו את ההסתברויות הבאות:
- שידגום 3 מוצרים.
  - שידגום 4 מוצרים.
  - שידגום 5 מוצרים.
  - שידגום יותר מ-7 מוצרים.
  - שידגום לא פחות מ-8 מוצרים.
- (2) צילום שמבוצע במכון הרנטגן "X-RAY" יתקבל תקין בהסתברות של 0.9. אדם נכנס למכון כדי להצטלם, והוא ייצא מהמכון רק כאשר יש בידו תצלום תקין.
- מה ההסתברות שיצטלם בסך הכול 3 פעמים?
  - מה ההסתברות שהצטלם יותר מ-4 פעמים?
  - מה התוחלת ומה השונות של מספר הצילומים שייבצע?
  - כל צילום עולה למכון 50 ₪. אדם משלם על צילום תקין 100 ₪. מה התוחלת ומה השונות של רווח המכון מאדם שהגיע להצטלם?
- (3) מטילים מטבע עד אשר מתקבלת התוצאה "עץ".
- מה ההסתברות להטיל את המטבע לכל היותר 10 פעמים?
  - מה ההסתברות להטיל את המטבע לכל היותר 5 פעמים, אם ידוע שהמטבע הוטל לפחות 3 פעמים?
  - אם ידוע שבשתי ההטלות הראשונות התקבלה התוצאה "פלי", מה ההסתברות שהאדם הטיל את המטבע 7 פעמים?
  - מה תוחלת מספר הפעמים שהתקבלה התוצאה "פלי"?
- (4) 30% מהמכוניות בארץ הן בצבע לבן. בכל יום נכנסות לחניון כשלהו 10 מכוניות אקראיות.
- מה ההסתברות שביום מסוים בדיוק מחצית מהמכוניות בחניון יהיו לבנות?
  - מה תוחלת מספר הימים שיעברו מהיום עד שלראשונה מחצית מהמכוניות בחניון יהיו לבנות?

- (5) אדם משחק במשחק מזל עד אשר הוא מפסיד. הצפי הוא שישחק את המשחק 10 פעמים. מה הסיכוי להפסיד במשחק בודד?
- א. מה ההסתברות שישחק את המשחק בדיוק 6 פעמים?  
 ב. מה ההסתברות שישחק את המשחק לכל היותר 12 פעמים?  
 ג. ידוע שהאדם שיחק את המשחק יותר מ-6 פעמים.  
 מה ההסתברות שישחק את המשחק בדיוק 10 פעמים?  
 ד. מהי סטיית התקן של מספר הפעמים שישחק את המשחק?
- (6) במאפייה מייצרים עוגות גבינה ועוגות שוקולד שנארזות באריזות אטומות. 40% מהעוגות הן עוגות גבינה והיתר שוקולד. התווית על האריזה מודבקת בשלב מאוחר יותר של הייצור. אדם נכנס למפעל ובוחר באקראי עוגה.
- א. מה ההסתברות שייאלץ לבחור 5 עוגות עד שקיבל עוגות שוקולד?  
 ב. אם הוא דגם פחות מ-7 עוגות עד שיקבל עוגת שוקולד, מה ההסתברות שבפועל הוא דגם יותר מ-4 עוגות?  
 ג. האדם דוגם עוגות עד אשר הוא מוצא עוגת שוקולד. ידוע שעוגת גבינה עולה ליצרן 50 שקלים ועוגת שוקולד 30 שקלים. מהי התוחלת ומהי השונות של עלות הייצור הכוללת של העוגות שדגם?  
 ד. בהמשך לסעיף הקודם, מהי התוחלת ומהי סטיית התקן של מספר עוגות הגבינה שדגם האדם?

### תשובות סופיות:

- (1) א. 0.04512    ב. 0.0428    ג. 0.0407    ד. 0.6983    ה. 0.6983
- (2) א. 0.009    ב. 0.0001    ג. תוחלת: 1.111, שונות: 0.1234  
 ד. תוחלת: 44.4, שונות: 308.5
- (3) א. 0.999    ב. 0.875    ג. 0.03125    ד. 1
- (4) א. 0.1029    ב. 9.72
- (5) א. 0.06    ב. 0.7176    ג. 0.0729    ד. 9.487
- (6) א. 0.015    ב. 0.0215    ג. תוחלת:  $63\frac{1}{3}$ , שונות:  $2777\frac{7}{9}$   
 ד. תוחלת  $\frac{2}{3}$ , שונות 1.054

# מבוא להסתברות

פרק 23 - התפלגויות בדידות מיוחדות - התפלגות אחידה

תוכן העניינים

1. כללי ..... 89

## התפלגויות בדידות מיוחדות – התפלגות אחידה:

**רקע:**

התפלגות אחידה הינה התפלגות שבה לכל תוצאה יש את אותה הסתברות. הערכים המתקבלים בהתפלגות הם החל מ- $a$  ועד  $b$  בקפיצות של אחד.  $X \sim U(a, b)$ .

**פונקציית ההסתברות:**  $P(X = K) = \frac{1}{b-a+1}$  ,  $K = a, a+1, \dots, b$

**תוחלת:**  $E(X) = \frac{a+b}{2}$

**שונות:**  $V(X) = \frac{(b-a+1)^2 - 1}{12}$

דוגמה (פתרון בהקלטה):

אדם בוחר מספר אקראי בין 1 ל-100 כולל. מהי פונקציית ההסתברות של המספר ומה הצפי שלו?

## שאלות:

- (1) במשחק הלוטו 45 כדורים ממוספרים מ-1 ועד 45. נתבונן במשתנה  $X$  - המספר של הכדור הראשון שנשלף על ידי המכונה.
- חשבו את  $P(X = 2)$ .
  - חשבו את  $P(X \leq 30)$ .
  - חשבו את  $P(X > 4 | X \leq 10)$ .
  - חשבו את  $P(X = k)$ .
- (2) קוסם מבקש לבחור מספר שלם אקראי בין 1 ל-100.
- בהנחה שאין כאן מניפולציות של הקוסם, מהי התוחלת ומהי סטיית התקן של המספר שיבחר?
  - הקוסם ביקש משישה אנשים לבחור מספר:
    - מה ההסתברות ששלושה מהם יבחרו מספר הגדול מ-80?
    - מה התוחלת ומהי סטיית התקן של סכום המספרים שהאנשים בחרו?
- (3) יהי  $X$  התוצאה בהטלת קובייה.
- מהי ההתפלגות של  $X$ ?
  - מה התוחלת של  $X$ ?
  - קובייה הוטלה 4 פעמים. מה התוחלת ומה השונות של סכום התוצאות ב-4 ההטלות?
- (4) בכד 10 כדורים שרק אחד בצבע אדום. כדורים הוצאו ללא החזרה עד שהתקבל הכדור האדום. מה התוחלת ומהי השונות של מספר הכדורים שהוצאו?
- (5) יש לבחור מספר אקראי בין 1 ל-50, כולל.
- מה הסיכוי שהמספר 4 יבחר?
  - מה הסיכוי שהמספר שיבחר גדול מ-20?
  - אם נבחר מספר גדול מ-20, מה ההסתברות שהוא קטן מ-28?
- (6) הוכיחו שאם:  $X \sim U(a, b)$ , אז מתקיים ש:  $E(X) = \frac{a+b}{2}$ .

## תשובות סופיות:

- (1) א.  $\frac{1}{45}$     ב.  $\frac{30}{45}$     ג. 0.6
- (2) א. תוחלת: 50.5, סטיית תקן: 28.87.  
 ב. i. 0.08192    ii. תוחלת: 303, סטיית תקן: 70.71
- (3) א.  $X \sim U(1,6)$     ב. 3.5    ג. תוחלת: 14, שונות: 11.66
- (4) תוחלת: 5.5, שונות: 8.25
- (5) א.  $\frac{1}{50}$     ב.  $\frac{30}{50}$     ג.  $\frac{7}{30}$
- (6) שאלת הוכחה.

# מבוא להסתברות

פרק 24 - התפלגויות בדידות מיוחדות - התפלגות פואסונית

תוכן העניינים

1. כללי ..... 92

## התפלגויות בדידות מיוחדות – התפלגות פואסונית:

### רקע:

התפלגות פואסונית היא התפלגות שמאפיינת את מספר האירועים שמתרחשים ביחידת זמן.

$\lambda$  - פרמטר המאפיין את ההתפלגות הנ"ל. הפרמטר מייצג את קצב האירועים ביחידת זמן. כלומר, כמה אירועים בממוצע קורים ביחידת זמן:  $X \sim pois(\lambda)$ . התפלגות פואסונית חייבת להופיע כנתון בשאלה ולכן לא יהיה צורך לזהותה.

### פונקציית ההסתברות של ההתפלגות הפואסונית נתונה:

$$P(X = K) = \frac{e^{-\lambda} \cdot \lambda^K}{K!}, \quad K = 0, 1, 2, \dots, \infty$$

### התוחלת והשונות של ההתפלגות:

$$E(X) = V(X) = \lambda$$

### תכונות מיוחדות של ההתפלגות:

- בהתפלגות הזו הפרמטר  $\lambda$  פרופורציונלי לאינטרוול הזמן שעליו דנים.
- אינטרוולי זמן לא חופפים בלתי תלויים זה בזה.

דוגמה (פתרון בהקלטה):

במוקד טלפוני מתקבלות פניות בקצב של 5 פניות לדקה. מספר הפניות בדקה מתפלג פואסונית.

- מה ההסתברות שבדקה כלשהי תתקבל פניה 1?
- מה ההסתברות שבשתי דקות יגיעו 12 פניות?
- מה ההסתברות שבדקה אחת תגיע פניה 1 ובשתי דקות שלאחר מכן 12 פניות?
- מה התוחלת וסטיית התקן של מספר הפניות בדקה?

## שאלות:

- (1) במוקד טלפוני מתקבלות פניות בקצב של 5 פניות לדקה. מספר הפניות בדקה מתפלג פואסונית.
- מה ההסתברות שבדקה תתקבל פניה 1?
  - מה ההסתברות שבדקה תתקבל לפחות פניה 1?
  - מה ההסתברות שבדקה יתקבלו לכל היותר 2 פניות?
  - מה שונות מספר הפניות בדקה?
- (2) מספר הטעויות לעמוד בעיתון מתפלג פואסונית עם ממוצע של 4 טעויות לעמוד. בחלק מסוים של עיתון ישנם 5 עמודים.
- מה ההסתברות שבחלק זה ישנן בדיוק 18 טעויות?
  - אם בעמוד הראשון אין טעויות, מה ההסתברות שבסך הכול בכל החלק ישנן 15 טעויות?
  - אם בחלק של העיתון נמצאו בסך הכול 18 טעויות, מה ההסתברות ש-5 מהן בעמוד הראשון?
- (3) מספר תאונות הדרכים הקטלניות במדינת ישראל מתפלג פואסונית עם סטיית תקן של 2 תאונות לשבוע.
- מה תוחלת מספר התאונות בשבוע?
  - מהי ההסתברות שבחודש (הניחו שבחודש יש 4 שבועות) יהיה בדיוק שבוע אחד בו יהיו 3 תאונות דרכים קטלניות?
- (4) לחנות AM:PM השכונתית מספר הלקוחות שנכנסים מתפלג פואסונית עם ממוצע של 2 לקוחות לדקה.
- מה ההסתברות שבדקה כלשהי יהיו בדיוק 3 לקוחות?
  - מה ההסתברות שבדקה כלשהי יגיח לפחות לקוח אחד?
  - מה ההסתברות שבדקה כלשהי יהיו לכל היותר שני לקוחות?
  - מהי התוחלת ומה סטיית התקן של מספר הלקוחות שנכנסים לחנות בדקה?
- (5) מספר הלידות בבית חולים מתפלג פואסונית עם תוחלת של 8 לידות ביום.
- מה ההסתברות שביום א' נולדו 10 תינוקות וביום ב' נולדו 7 תינוקות?
  - מיילדת עובדת במשמרות של 8 שעות. מה ההסתברות שבמשמרת שלה נולדו 3 תינוקות?
  - מהי התוחלת של מספר הימים בשבוע בהם נולדים ביום עשרה תינוקות?

- 6) במערכת אינטרנט לתשלום חשבונות, מספר החשבונות המשולמים בשעה מתפלג פואסונית עם תוחלת של 30.
- א. כמה שעות צפויות לעבור עד אשר תתקבל שעה עם בדיוק 33 חשבונות?
- ב. בין השעה 08:00 ל-08:20 היו 18 חשבונות, מה ההסתברות שבין 08:00 ל-08:10 היו בדיוק 6 חשבונות?

### תשובות סופיות:

- |              |           |           |                              |
|--------------|-----------|-----------|------------------------------|
| 1) א. 0.0337 | ב. 0.9933 | ג. 0.1246 | ד. 0.5                       |
| 2) א. 0.084  | ב. 0.099  | ג. 0.151  |                              |
| 3) א. 4      | ב. 0.407  |           |                              |
| 4) א. 0.1804 | ב. 0.8647 | ג. 0.6767 | ד. תוחלת: 2, סטיית תקן: 1.41 |
| 5) א. 0.0139 | ב. 0.2196 | ג. 0.6948 |                              |
| 6) א. 16.7   | ב. 0.0708 |           |                              |

# מבוא להסתברות

פרק 25 - קירוב פואסוני להתפלגות הבינומית

תוכן העניינים

95 ..... 1. כללי

## קירוב פואסוני להתפלגות הבינומית:

### רקע:

אם:  $X \sim B(n, p)$  עבור  $n$  גדול ו- $P$  קטן ניתן לקרב את ההתפלגות להיות פואסונית כאשר הפרמטר:  $\lambda = np$ .

כאשר פונקציית ההסתברות של ההתפלגות הפואסונית כזכור היא:  $p(X = k) = \frac{e^{-\lambda} \cdot \lambda^k}{k!}$ .  
 הערה: יש הטוענים, כי  $n$  גדול ו- $P$  קטן משמעו:  $np \geq 10$  ו- $p \leq 0.1$ .

דוגמה (פתרון בהקלטה):

בקו ייצור המוני 10% מהמוצרים כחולים. בוחרים באקראי 20 מוצרים מקו הייצור. חשבו את ההסתברות שמתוך המוצרים שיבחרו בדיוק 1 יהיה כחול. פעם לפי ההתפלגות הבינומית ופעם לפי הקירוב הפואסוני.

## שאלות:

- (1) במדינת שומקום 10% מהאוכלוסייה מובטלת. נדגמו 10 תושבים אקראיים מאותה מדינה. חשבו את הסיכוי שבמדגם יהיה לכל היותר מובטל אחד. השוו את התוצאה לקירוב הפואסוני.
- (2) מקו ייצור המוני נדגמו 1000 מוצרים. ידוע ש-5% מהמוצרים בקו הייצור פגומים. מה הסיכוי שבמדגם יתקבלו 45 מוצרים פגומים?
- (3) 1% מהתושבים באוכלוסייה גדולה חולים במחלה מסוימת. בסניף קופת חולים נרשמו 2000 תושבים אקראיים. חשבו לפי הקרוב הפואסוני שבדיוק 18 מהם יהיו חולים.
- (4) בעיר ניו יורק ישנם כתשעה מיליון תושבים, שמתוכם 900 אלף אסיאתיים. מה בקירוב ההסתברות שמתוך 100 תושבים אקראיים לפחות שני אסיאתיים?

## תשובות סופיות:

- (1) ללא קירוב: 0.7361, עם קירוב: 0.7358.
- (2) 0.0458
- (3) 0.0844
- (4) 0.9995

# מבוא להסתברות

פרק 26 - התפלגויות בדידות מיוחדות-התפלגות היפרגאומטרית

תוכן העניינים

1. כללי ..... 97

## התפלגויות בדידות מיוחדות – התפלגות היפרגאומטרית:

### רקע:

נתונה אוכלוסייה המכילה  $N$  פריטים, מתוכם  $D$  פריטים בעלי תכונה מסוימת – פריטים אלה נקראים "מיוחדים". בוחרים מאותה אוכלוסייה  $n$  פריטים ללא החזרה.  $X$  מוגדר להיות מספר הפריטים ה"מיוחדים" שנדגמו. משתנה מקרי היפרגאומטרי עם הפרמטרים  $(N, D, n)$  יסומן על ידי:  $X \sim H(N, D, n)$ .

$$P(X = k) = \frac{\binom{D}{k} \binom{N-D}{n-k}}{\binom{N}{n}} \quad \text{פונקציית ההסתברות של ההתפלגות:}$$

$$E(X) = n \cdot \frac{D}{N} \quad \text{התוחלת של ההתפלגות:}$$

$$V(X) = n \cdot \frac{D}{N} \cdot \left(1 - \frac{D}{N}\right) \cdot \frac{N-n}{N-1} \quad \text{השונות של ההתפלגות:}$$

דוגמה (הפתרון בהקלטה):

בכתה 40 תלמידים, שמתוכם 10 בנות והשאר בנים. בוחרים קבוצה של ארבעה תלמידים שיסעו למשלחת.

- א. כיצד מספר הבנים במשלחת מתפלג?
- ב. מה התוחלת ומהי השונות של מספר הבנים במשלחת?
- ג. מה הסיכוי שבמשלחת יהיו 3 בנים?

## שאלות:

- (1) בכד 5 כדורים אדומים ו-4 כדורים ירוקים. מוציאים באקראי שלושה כדורים מהכד.  
 א. בנו את פונקציית ההסתברות של מספר הכדורים האדומים שהוצא בטבלה.  
 ב. חשבו את התוחלת והשונות של מספר הכדורים האדומים שהוצאו, פעם מתוך פונקציית ההסתברות ופעם מתוך הנוסחאות להתפלגות היפרגאומטרית.  
 ג. מה הייתה התוחלת והשונות של מספר הכדורים האדומים אם ההוצאה הייתה עם החזרה?
- (2) בחידון 10 שאלות משלושה תחומים שונים: 3 בתחום הספורט, 4 בתחום הבידור והיתר בתחום המדעים. משתתף בחידון שולף באקראי 4 שאלות.  
 נגדיר את  $X$  להיות מספר השאלות מתחום הספורט שנשלפו.  
 א. בנו את פונקציית ההסתברות של  $X$  בנוסחה (לא בטבלה).  
 ב. מה התוחלת וסטיית התקן של  $X$ ?  
 ג. חשבו את ההסתברות הבאה:  $P(X = 2 | X > 1)$ .
- (3) נדגמו 6 אנשים מתוך אוכלוסייה שבה 60% בעלי רישיון נהיגה. אנו מתעניינים במספר האנשים שנדגמו עם רישיון נהיגה. זהו בסעיפים הבאים את ההתפלגות, וחשבו לכל התפלגות את התוחלת והשונות:  
 א. האוכלוסייה גדולה מאד.  
 ב. האוכלוסייה בת 10 אנשים.
- (4) בארגון עובדים 7 מהנדסים, 3 טכנאים ו-5 הנדסאים. בוחרים באופן מקרי משלחת של 4 עובדים לכנס במדריד.  
 א. מהי ההסתברות שייבחרו רק מהנדסים?  
 ב. מה תוחלת מספר הטכנאים שייבחרו?

## תשובות סופיות:

(1) א. ב. תוחלת:  $1\frac{2}{3}$ , שונות:  $\frac{5}{9}$ .

3	2	1	0	x
$\frac{10}{84}$	$\frac{40}{84}$	$\frac{30}{84}$	$\frac{4}{84}$	$P(x)$

ג. תוחלת:  $1\frac{2}{3}$ , שונות:  $\frac{20}{27}$ .

(2) א.  $\frac{\binom{3}{k} \cdot \binom{7}{4-k}}{\binom{10}{4}}$ . ב. תוחלת: 1.5, סטיית תקן: 0.748. ג. 0.9.

(3) א. תוחלת: 3.6, שונות: 1.44. ב. תוחלת: 3.6, שונות: 0.64.

(4) א. 0.0256. ב. 0.8.

# מבוא להסתברות

פרק 27 - התפלגויות בדידות מיוחדות - התפלגות בינומית שלילית

תוכן העניינים

100 ..... 1. כללי

## התפלגויות בדידות מיוחדות – התפלגות בינומית שלילית:

### רקע:

בהתפלגות זו חוזרים על אותו ניסוי ברנולי בזה אחר זה באופן בלתי תלוי עד אשר מצליחים בפעם ה- $r$ .  $X =$  מספר החזרות עד שהתקבלו  $r$  הצלחות:  $X \sim NB(r, p)$ .

**פונקציית ההסתברות:**  $P(X = k) = \binom{k-1}{r-1} p^r (1-p)^{k-r}$ ,  $k = r, r+1, \dots, \infty$

**תוחלת:**  $E(X) = \frac{r}{p}$

**שונות:**  $V(X) = \frac{r(1-p)}{p^2}$

דוגמה (פתרון בהקלטה):

קובייה מוטלת עד שמקבלים 3 פעמים תוצאה שגדולה מ-4.

א. מה הסיכוי להטיל את הקובייה 6 פעמים?

ב. מה תוחלת ושונות מספר הפעמים שנטיל את הקובייה?

## שאלות:

- (1) בכד 4 כדורים שחורים ו-6 כדורים לבנים. כדור מוצא באקראי פעם אחר פעם ומוחזר בין הוצאה להוצאה. נסמן ב- $X$  את מספר הכדורים שהוצאו עד שהתקבלו 2 כדורים לבנים בסך הכול (לא בהכרח ברצף).
- חשבו את  $P(X = 2)$ .
  - חשבו את  $P(X = 3)$ .
  - חשבו את  $P(X = 4)$ .
  - חשבו את  $P(X = k)$ .
- (2) הסיכוי לזכות במשחק מזל הוא 0.4. אדם משחק במשחק ומפסיק ברגע שהוא ניצח פעמיים (לא בהכרח ברצף).
- מה הסיכוי שישחק פעמיים?
  - מה הסיכוי שישחק 3 פעמים?
  - מה הסיכוי שישחק 4 פעמים?
  - מה הסיכוי שישחק 5 פעמים?
  - מה הסיכוי שישחק  $k$  פעמים?
- (3) הראו שההתפלגות הגאומטרית היא מקרה פרטי של ההתפלגות הבינומית השלילית.
- (4) מטבע מוטל שוב ושוב עד שמתקבל שלוש פעמים עץ בסך הכול.
- בנו את פונקציית ההסתברות של מספר ההטלות הכולל.
  - מהי התוחלת ומהי השונות של מספר ההטלות הכולל?
  - חוזרים על התהליך שלעיל 5 פעמים. מה ההסתברות שפעמיים מתוך ה-5 חזרות נאלץ להטיל את המטבע בדיוק 4 פעמים?
- (5) יהיה  $X_i$  מספר החזרות עד ההצלחה הראשונה בניסיונות ברנוליים בלתי תלויים זה בזה, כאשר  $i = 1, 2, \dots, n$ .
- הוכיחו שהתוחלת והשונות של  $\sum_{i=1}^n X_i$  זהות לתוחלת והשונות של ההתפלגות הבינומית השלילית  $NB(n, p)$ .

### תשובות סופיות:

- (1) א. 0.36    ב. 0.288    ג. 0.0576    ד.  $0.6^2 \cdot 0.4^{k-2}$
- (2) א. 0.16    ב. 0.192    ג. 0.1728    ד. 0.13824    ה.  $0.4^2 \cdot 0.6^{k-2}$
- (3) שאלת הוכחה.
- (4) ב. תוחלת: 6, שונות: 6.    ג. 0.1886
- (5) שאלת הוכחה.

# מבוא להסתברות

פרק 28 - המשתנה המקרי הבדיד - תוחלת של פונקציה של משתנה מקרי  
בדיד

תוכן העניינים

1. ראשי.....103

## תוחלת של פונקציה של משתנה מקרי בדיד:

רקע:

יהי  $X$  משתנה מקרי, ותהי  $g(X)$  פונקציה של  $X$ . אז:

$$\begin{aligned}
 E(g(X)) &= g(x_1)P(X=x_1) + g(x_2)P(X=x_2) + g(x_3)P(X=x_3) + \dots \\
 &= \sum_i g(x_i) \cdot P(x_i)
 \end{aligned}$$

כאשר  $x_1, x_2, x_3, \dots$  הם הערכים שהמשתנה  $X$  מקבל.

דוגמה (פתרון בהקלטה):

נתון:

$X$	0	1	2
$P(X)$	$\frac{1}{3}$	$\frac{1}{2}$	$\frac{1}{6}$

מצאו התפלגות ותוחלת של:  $Y = X^2$ .

## שאלות:

- (1) מסובבים רולטה עליה המספרים 1 עד 4. יהיה  $X$  המספר שהתקבל לאחר סיבוב הרולטה. התפלגות  $X$  היא כדלהלן:

$X$	4	3	2	1
$P(X)$	0.3	0.4	0.2	0.1

א. חשבו את:  $E(X)$ ,  $E\left(\frac{1}{X}\right)$ .

ב. האם:  $E\left(\frac{1}{X}\right) = \frac{1}{E(X)}$ ?

- (2) יהי  $X$  משתנה מקרי בעל פונקציית ההסתברות הבאה:

2	1	0	$X$
0.75	0.20	0.05	$P(X)$

חשבו את התוחלת של:

א.  $X^2$ .

ב.  $2^X$ .

- (3) להלן פונקציית הסתברות של משתנה מקרי כלשהו:  $P(X = k) = \frac{k}{A}$ ,  $k = 1, 2, \dots, 4$ .

א. מצאו את ערכו של  $A$ .

ב. חשבו את:  $E\left([X - E(X)]^2\right)$ .

- (4) בכל יום משחק ערן משחק יחיד בכל אחת מהאפליקציות הבאות: TWODOTS ו-PIANOTILES. בכל אחד מהמשחקים ישנם שלבים שיש לעבור. משחק בודד מסתיים בהצלחה אם ערן עבר את שלב, ובכישלון אם ערן לא עבר את השלב. ההסתברות שבאפליקציית TWODOTS ערן יעבור שלב היא 0.6 בכל יום. ההסתברות שבאפליקציית PIANOTILES ערן יעבור שלב היא 0.35 בכל יום. נניח שמעבר שלב בכל אחד מהמשחקים בלתי תלוי במשחק אחר. נסמן ב- $W$  את מספר המשחקים שערן יעבור שלב בהם מחר.

א. חשבו את  $E(W)$ .

ב. חשבו את  $E(W^3)$ .

(5) יהי  $X$  משתנה מקרי בדיד עם תוחלת ושונויות סופיים:  $Y = aX + b$ , כאשר  $a \neq 0$ .  
 $a, b$  הינם פרמטרים. יש להוכיח ש:  $E(Y) = aE(X) + b$ ,  $V(Y) = a^2 \cdot V(X)$ .

(6) אלעד צופה בסדרה בת 6 פרקים. 3 פרקים מתוך ה-6 הם פרקים שצולמו בישראל ו-3 פרקים אחרים צולמו בבולגריה. פרק אחד מבין הפרקים שצולמו בבולגריה מצולם כולו ביער. אלעד צופה בפרקי הסדרה בסדר אקראי, עד אשר הוא מגיע לפרק שצולם ביער בבולגריה. נגדיר את  $W$  כמספר הפרקים שצולמו בבולגריה שבהם יצפה אלעד.

א. מהי התפלגות  $W$ ?

ב. חשבו:  $E(W^3)$ .

(7) למיקה יש 20 חולצות ו-3 מגירות. כאשר מיקה מסדרת את 20 החולצות במגירות היא בוחרת עבור כל חולצה, באופן מקרי ובלתי תלוי בחולצות האחרות, את המגירה אליה תכניס את החולצה (כל אחת מהמגירות יכולה להכיל את כל החולצות).

נסמן ב- $X$  את מספר המגירות המכילות בדיוק 10 חולצות.

מצאו את התפלגות  $X$  ואת:  $E(\sqrt{X+2})$ .

(8) מטבע מוטל 10 פעמים.  $X =$  מספר הפעמים שהתקבלה התוצאה ראש.

א. בנו את פונקציית ההסתברות של  $X$ .

ב. הרווח במשחק הוא  $4^X$ . מצאו את התוחלת של הרווח במשחק.

$$\text{רמז: היעזרו בבינום של ניוטון: } (a+b)^n = \sum_{k=0}^n \binom{n}{k} a^k b^{n-k}$$

### תשובות סופיות:

(1) א.  $E\left(\frac{1}{X}\right) = 0.4083$ ,  $E(X) = 2.9$ . ב. לא.

(2) א. 3.2. ב. 3.45.

(3) א. 10. ב. 1.

(4) א. 0.95. ב. 2.21.

(5) הוכחה.

(6) א.  $X \sim U(1,3)$ . ב. 12.

(7)  $E(\sqrt{X+2}) = 1.4659$ .

(8) א.  $X \sim B(10,0.5)$ . ב.  $2.5^{10}$ .

# מבוא להסתברות

פרק 29 - המשתנה המקרי הברידי - שאלות מסכמות

תוכן העניינים

106 ..... 1. כללי

## המשתנה המקרי הבדיד – שאלות מסכמות:

### שאלות:

(1) נתון כי:  $X \sim B\left(4, \frac{1}{2}\right)$ ,  $Y \sim B\left(10, \frac{1}{4}\right)$ .

- א. חשבו את התוחלת וסטיית התקן של  $X$ .
- ב.  $W = 2X - 4$ , חשבו את התוחלת וסטיית התקן של  $W$ .
- ג.  $T = X + Y$ , חשבו את התוחלת של  $T$ .
- האם ניתן לדעת מה סטיית התקן של  $T$ ?
- (2) ערן משחק בקזינו בשתי מכונות הימורים, בכל מכונה משחק אחד (במכונה א' ובמכונה ב'). הסיכוי שלו לנצח במשחק במכונה א' הינו 0.08 והסיכוי שלו לנצח רק במכונה א' הינו 0.05. הסיכוי שלו להפסיד בשני המשחקים ביום מסוים הוא 0.88.

- א. מה הסיכוי שערן ניצח בשני המשחקים?
- ב. מה התוחלת ומהי השונות של מספר הניצחונות של ערן?
- ג. אם ערן נכנס לקזינו 5 פעמים ובכל פעם שיחק את שני המשחקים, מה ההסתברות שערן ינצח בשני המשחקים בדיוק פעם אחת מתוך חמשת הפעמים?
- (3) לאדם צרור מפתחות. בצרור 5 מפתחות אשר רק אחד מתאים לדלת של ביתו. האדם מנסה את המפתחות באופן מקרי. לאחר שניסה מפתח מסוים הוא מוציא אותו מהצרור כדי לא להשתמש בו שוב. נסמן ב- $X$  את מספר הניסיונות עד שהדלת תפתח.
- א. בנו את פונקציית ההסתברות של  $X$ .
- ב. חשבו את התוחלת והשונות של  $X$ .
- ג. כל ניסיון לפתוח הדלת אורך חצי דקה. מה התוחלת ומה השונות של הזמן הכולל לפתיחת הדלת?

- (4) מספר התקלות בשידור "ערוץ 1" מתפלג פואסונית בקצב של 6 תקלות ביום.
- א. מה ההסתברות שביום מסוים הייתה לפחות תקלה אחת?
- ב. מה ההסתברות שבשבוע (7 ימי שידור) יהיו בדיוק 6 ימים בהם לפחות תקלה אחת?
- ג. מה תוחלת מספר הימים שיעברו מהיום ועד היום הראשון בו לפחות תהיה תקלה אחת?

- (5) בעל חנות גדולה בקניון שם לב ש-40% מהמוצרים בחנותו נרכשים עבור ילדים, 35% נרכשים עבור נשים ו-25% נרכשים עבור גברים. 10% מהמוצרים הנרכשים עבור ילדים הם מתוצרת חוץ, וכך גם 60% מהמוצרים הנרכשים עבור נשים ו-50% מאלה הנרכשים עבור גברים.
- מה ההסתברות למכור בחנות זו מוצר מתוצרת חוץ?
  - יהי  $X$  מספר המוצרים שימכרו בחנות זו מפתחתה ביום א' בבוקר, עד שלראשונה יימכר מוצר מתוצרת הארץ (כולל). מהי פונקציית ההסתברות של  $X$ ?
  - מהי תוחלת מס' המוצרים מתוצרת חוץ שימכרו, עד שלראשונה יימכר מוצר מתוצרת הארץ?
  - ביום ב' נמכרו בחנות 7 מוצרים. מה ההסתברות שבדיוק 3 מהם הם מתוצרת חוץ?
- (6) חברת הפקות של סרטים הפיקה 3 סרטים, אשר הופקו לטלוויזיה המקומית. חברת ההפקות מנסה למכור את הסרטים הללו לחו"ל. להלן ההסתברויות למכירת הסרטים לחו"ל:
- הסרט "הצב" יימכר לחו"ל בסיכוי של 0.6.
  - הסרט "לעולם לא" יימכר לחו"ל בסיכוי של 0.7.
  - הסרט "מוות פתאומי" יימכר לחו"ל בסיכוי של 0.2.
- ידוע כי כל סרט עלה להפקה חצי מיליון שקלים. כמו כן, כל סרט הביא להכנסה של 200,000 שקלים מהטלוויזיה המקומית. במידה וסרט יימכר לחו"ל, כל סרט יימכר ב-600,000 שקלים.
- בנו את פונקציית ההסתברות של מספר הסרטים שיימכרו לחו"ל.
  - מהי התוחלת והשונות של מספר הסרטים שיימכרו?
  - מהי התוחלת ומהי סטיית התקן של הרווח (במאות אלפי שקלים) של חברת ההפקה?
- (7) במפעל מייצרים סוכריות כך ש-20% מהסוכריות בטעם תות. הייצור הוא ייצור המוני. שאר הסוכריות בטעמים שונים, השקיות נארזות ובכל שקית בדיוק 5 סוכריות.
- נבחרה שקית ונתון שבשקית פחות מ-3 סוכריות אדומות. מה ההסתברות שבשקית סוכריה אדומה אחת?
  - בוחרים באקראי שקית אחר שקית, במטרה למצוא שקית ללא סוכריות אדומות. מה ההסתברות שייאלצו לדגום יותר מ-6 שקיות?

8) מבחן בנוי משני חלקים: בחלק א' 10 שאלות ובחלק ב' 10 שאלות. תלמיד התכוון רק לחלק א' של המבחן ובחלק זה בכל שאלה יש סיכוי של 0.8 שיענה נכון, בחלק השני לכל שאלה יש 4 תשובות כשרק אחת נכונה. בחלק זה הוא מנחש את התשובות.

- מהי ההסתברות שבחלק הראשון הוא יענה נכון על 7 שאלות בדיוק?
- מהי ההסתברות שבחלק השני הוא יענה נכון על פחות מ-3 שאלות?
- מה התוחלת ומהי השונות של מספר התשובות הנכונות בחלק הראשון?
- מהי התוחלת ומהי השונות של מספר התשובות הנכונות בבחינה כולה?

9) יהי  $X$  משתנה מקרי המקיים:  $E(X) = 2$  וכן:  $V(X) = 1$ .

חשבו:  $E(X - 5)^2$ .

10) הסיכוי לעבור מבחן נהיגה הינו  $P$ . בוחרים באקראי ארבעה נבחנים.

ההסתברות ששניים מהם יעברו את מבחן הנהיגה גבוה פי  $\frac{8}{3}$  מהסיכוי שכל

הארבעה יעברו את המבחן.

א. חשבו את ערכו של  $P$ .

ב. תלמיד ניגש לבחינה עד אשר הוא עובר אותה.

מה ההסתברות שיעבור את מבחן הנהיגה רק במבחן הרביעי?

ג. מה ההסתברות שיאלץ לגשת לפחות לחמישה מבחנים בסך הכול?

ד. מה התוחלת ומהי השונות של מספר המבחנים שבהם יכשל?

ה. ידוע שהתלמיד ניגש לשלושה מבחנים ועדיין לא עבר. מה ההסתברות שבסופו של דבר יעבור במבחן הנהיגה החמישי?

11) רובוט נמצא בנקודה 0 על ציר המספרים. הרובוט מבצע  $n$  צעדים ובכל צעד

הוא נע בסיכוי  $P$ . ימינה ביחידה אחת ובסיכוי  $1 - P$  שמאלה ביחידה אחת.

נסמן ב- $X$  את המספר עליו עומד הרובוט לאחר  $n$  צעדים.

רשמו את פונקציית ההסתברות של  $X$  באמצעות  $P$  ו- $n$ .

12) למטבע יש סיכוי  $P$  לקבל את התוצאה ראש. מטילים את המטבע. אם יוצא

ראש בפעם הראשונה מפסידים שקל ומפסיקים את המשחק. אחרת,

ממשיכים לזרוק וזוכים במספר שקלים לפי מספר הפעמים שהטלנו את

המטבע מההתחלה ועד שהתקבל ראש.

א. בנו את פונקציית ההסתברות של רווח המשחק (באמצעות  $P$ ).

ב. בטאו את תוחלת הרווח באמצעות  $P$ .

ג. לאלו ערכי  $P$  המשחק כדאי?

- 13** מטבע הוגן מוטל עד שמתקבל  $m+1$  פעמים עץ. רשמו את פונקציית ההסתברות של מספר הפעמים שהתקבל פלי.
- 14** נתונות  $N$  מגירות ממוספרות מ-1 ועד  $N$ . מתוך  $n$  חולצות, יש לבחור באופן אקראי לכל חולצה מגירה. כל מגירה יכולה להכיל את כל החולצות. נגדיר את  $X_1$  - כמספר החולצות שהונחו במגירה מספר 1. נגדיר את  $X_N$  - כמספר החולצות שהונחו במגירה מספר  $N$ . חשבו את:  $V(X_1 + X_N)$ .
- 15**  $n$  אנשים יושבים במסעדה. בזמן שמגיע העת לשלם, האנשים פועלים לפי העיקרון הבא: כל אחד מהם מטיל מטבע הוגן עד אשר אחד מהם מקבל תוצאה שונה מכל השאר והוא זה שמשלם. מהי תוחלת מספר הסבבים שיבוצעו עד שימצא משלם?
- 16** הסיכוי לעבור בקורס מסוים את מועד א' הוא 0.7. סטודנט שנכשל במועד א' בהכרח ניגש למועד ב' ואז הסיכוי שלו לעבור אותו הוא 0.8. אם סטודנט נכשל במועד ב' הוא ניגש למועד מיוחד ואחרון. נתון שלמועד א' נגשו כל 20 הסטודנטים הרשומים לקורס. מהי התפלגות מספר הבחינות שיאלץ המרצה לחבר?
- 17** לקניון 3 כניסות שונות. בכל כניסה מספר האנשים שנכנסים לקניון מתפלג פואסונית באופן בלתי תלוי בכניסה האחרת. מספר האנשים שנכנסים בכניסה ה- $i$  מתפלג פואסונית עם קצב של  $i$  אנשים בשנייה. יהי  $Y$  מספר האנשים שנכנסים לקניון בשנייה מכל הכניסות יחדיו. מצאו את:  $E\left[\frac{1}{Y+1}\right]$ .
- 18** לרני 20 טושים אותם הוא מכניס באקראי ל-3 קלמרים. לכל טוש נבחר קלמר באקראי ובאופן בלתי תלוי בטוש אחר. כל קלמר יכול להכיל עד 20 טושים. נסמן ב- $X$  את מספר הקלמרים שיש בהם בדיוק 10 טושים. חשבו את  $E(\sqrt{x+7})$ .

19) בשדרות רוטשילד החליטו לשתול  $n$  ברושים ו-2 אורנים אחד אחרי השני בשורה. סידור העצים בשורה נעשה באקראי. נגדיר את  $X$  להיות מספר הברושים, בין הברוש הגבוה ביותר לברוש הנמוך ביותר שנשתלו.

א. מצאו את ההתפלגות של  $X$ .

ב. הוכיחו שהתוחלת של  $X$  היא  $\frac{n-2}{3}$ .

## תשובות סופיות:

- (1) א. תוחלת: 2, סטיית תקן: 1.      ב. תוחלת: 0, סטיית תקן: 2.
- (2) א. 0.03      ב. תוחלת: 0.15, שונות: 0.1875.
- (3) א. ראו טבלה:      ב. תוחלת: 3, שונות: 2.

5	4	3	2	1	$x$
0.2	0.2	0.2	0.2	0.2	$P(x)$

- ג. תוחלת: 1.5, שונות: 0.5.
- (4) א. 0.9975      ב. 0.0172      ג. 1.0025
- (5) א. 0.375      ב. 0.6
- (6) א. ראו טבלה:      ב. תוחלת: 1.5, שונות: 0.61.

3	2	1	0	$x$
0.084	0.428	0.392	0.092	$P(x)$

- ג. תוחלת: 0, סטיית תקן: 4.68.
- (7) א. 0.4348      ב. 0.0923
- (8) א. 2.013      ב. 0.5256      ג. תוחלת: 8, שונות: 1.6.
- ד. תוחלת: 10.5, שונות: 3.475.
- (9) 10.
- (10) א. 0.6      ב. 0.0384      ג. 0.0256
- ד. תוחלת: 0.67, שונות: 1.11      ה. 0.24

$$P(X = k) = \binom{n}{k+n} \cdot p^{\frac{k+n}{2}} \cdot (1-p)^{\frac{n-k}{2}} \quad (11)$$

$$P(X = k) = \begin{cases} P & k = -1 \\ (1-P)^{k-1} \cdot P & k = 2, 3, \dots, \infty \end{cases} \quad (12)$$

$$0 < p < \sqrt{\frac{1}{2}} \quad \text{ג.}$$

$$. P(X = k) = \binom{m+k}{m} \cdot \left(\frac{1}{2}\right)^{k+m+1}, k = 0, 1, \dots, \infty \quad (13)$$

$$. n \cdot \left(\frac{2}{N}\right) \cdot \left(1 - \frac{2}{N}\right) \quad (14)$$

$$. \frac{2^n}{2n} \quad (15)$$

(16) ראו טבלה :

3	2	1	X
0.7099	0.2893	0.0008	P(X)

$$. \frac{e^{-6}}{6} [e^6 - 1] \quad (17)$$

$$. 2.675 \quad (18)$$

א.  $P(X = k) = \frac{n-k-1}{\binom{n}{2}}, k = 0, 1, \dots, n-2$  . ב. הוכחה. (19)

# מבוא להסתברות

פרק 30 - המשתנה המקרי הרציף - התפלגויות כלליות (שימוש באינטגרלים)

תוכן העניינים

1. כללי ..... 113

## המשתנה המקרי הרציף – התפלגויות כלליות (שימוש באינטגרלים)

### רקע:

בפרק זה נעסוק בהתפלגות של משתנים מקריים רציפים (גובה אדם אקראי, זמן תגובה וכו'). משתנים רציפים הם משתנים שבתחום מסוים מקבלים רצף אינסופי של ערכים אפשריים בניגוד למשתנים בדידים. נתאר את המשתנה המקרי הרציף על ידי פונקציה הנקראת פונקציית צפיפות.

באופן כללי נסמן פונקציית צפיפות של משתנה רציף כלשהו ב- $f(x)$ . השטח שמתחת לפונקציית הצפיפות נותן את ההסתברות. פונקציית צפיפות חייבת להיות לא-שלילית והשטח הכולל שמתחת לפונקציה יהיה תמיד 1.

### הגדרות יסודיות:

יהא משתנה רציף  $X$  בעל פונקציית צפיפות  $f(x)$ .

### פונקציית התפלגות מצטברת:

פונקציית ההתפלגות המצטברת מוגדרת באופן הבא:  $F(t) = p(X \leq t) = \int_{-\infty}^t f(x) dx$   
 כמו כן מתקיים:  $p(X > t) = 1 - F(t)$  ו-  $p(a < X < b) = F(b) - F(a)$ .

### תוחלת ושונות של משתנה רציף:

תוחלת של משתנה רציף תחושב באופן הבא:  $E(X) = \int_{-\infty}^{\infty} X \cdot f(x) dx = \mu$   
 שונות של משתנה רציף תחושב באופן הבא:  $V(X) = \int_{-\infty}^{\infty} X^2 \cdot f(x) dx - \mu^2 = \sigma^2$ .

תוחלת של פונקציה של  $X$  :

תוחלת של פונקציית משתנה רציף  $X$ , המסומנת:  $g(x)$ , תחושב באופן

$$\text{הבא: } E(g(x)) = \int_{-\infty}^{\infty} g(x) f(x) dx$$

### אחוזונים:

האחוזון ה- $p$  הוא ערך (נסמן אותו:  $x_p$ ), שהסיכוי ליפול מתחתיו הוא  $p$ .

$$\text{כלומר: } p(X \leq x_p) = p$$

### ריענון מתמטי:

#### נוסחאות לחישוב שטחים

$$S_{\text{triangle}} = \frac{h \cdot a}{2} : \text{ שטח משולש: גובה } (h) \text{ כפול הבסיס } (a) \text{ חלקי } 2$$

$$S_{\text{rectangle}} = a \cdot b : \text{ שטח מלבן: אורך } (a) \text{ כפול רוחב } (b)$$

### משוואת קו ישר:

משוואת ישר מפורשת תסומן:  $y = mx + n$ , כאשר  $m$  הוא שיפוע הישר ו- $n$  היא נקודת החיתוך של הישר עם ציר ה- $y$ .

$$m = \frac{y_2 - y_1}{x_2 - x_1} : \text{ שיפוע ישר העובר דרך שתי נקודות: } (x_1, y_1), (x_2, y_2) \text{ הוא}$$

משוואת ישר שעובר דרך נקודה ספציפית  $(x_1, y_1)$  ושיפועו הוא  $m$ , תחושב באופן

$$\text{הבא: } y - y_1 = m(x - x_1)$$

## אינטגרלים מידיים:

$$\int adx = ax + c$$

$$\int x^n dx = \frac{x^{n+1}}{n+1} + c \quad n \neq -1$$

$$\int \frac{1}{x} dx = \ln |x| + c$$

$$\int e^x dx = e^x + c$$

$$\int k^x dx = \frac{k^x}{\ln k} + c$$

$$\int \cos x dx = \sin x + c$$

$$\int \sin x dx = -\cos x + c$$

$$\int \tan x dx = -\ln |\cos x| + c$$

$$\int \cot x dx = \ln |\sin x| + c$$

$$\int \frac{1}{\cos^2 x} dx = \tan x + c$$

$$\int \frac{1}{\sin^2 x} dx = -\cot x + c$$

$$\int (ax+b)^n dx = \frac{1}{a} \frac{(ax+b)^{n+1}}{n+1} + c \quad n \neq -1$$

$$\int \frac{1}{ax+b} dx = \frac{1}{a} \ln |ax+b| + c$$

$$\int e^{ax+b} dx = \frac{1}{a} e^{ax+b} + c$$

$$\int k^{ax+b} dx = \frac{1}{a} \frac{k^{ax+b}}{\ln k} + c$$

$$\int \cos(ax+b) dx = \frac{1}{a} \sin(ax+b) + c$$

$$\int \sin(ax+b) dx = -\frac{1}{a} \cos(ax+b) + c$$

$$\int \tan(ax+b) dx = -\frac{1}{a} \ln |\cos(ax+b)| + c$$

$$\int \cot(ax+b) dx = \frac{1}{a} \ln |\sin(ax+b)| + c$$

$$\int \frac{1}{\cos^2(ax+b)} dx = \frac{1}{a} \tan(ax+b) + c$$

$$\int \frac{1}{\sin^2(ax+b)} dx = -\frac{1}{a} \cot(ax+b) + c$$

$$\int \frac{1}{\cos x} dx = \ln \left| \frac{1}{\cos x} + \tan x \right| + c$$

$$\int \frac{1}{x^2+a^2} dx = \frac{1}{a} \arctan \left( \frac{x}{a} \right) + c$$

$$\int \frac{1}{\sqrt{a^2-x^2}} dx = \arcsin \left( \frac{x}{a} \right) + c$$

$$\int \frac{1}{\sin x} dx = \ln \left| \frac{1}{\sin x} - \cot x \right| + c$$

$$\int \frac{1}{x^2-a^2} dx = \frac{1}{2a} \ln \left| \frac{x-a}{x+a} \right| + c$$

$$\int \frac{1}{\sqrt{x^2 \pm a^2}} dx = \ln |x + \sqrt{x^2 \pm a^2}| + c$$

$$\int \frac{f'}{f} dx = \ln |f| + c$$

$$\int e^f \cdot f' dx = e^f + c$$

$$\int \sin f \cdot f' dx = -\cos(f) + c$$

$$\int \sqrt{f} \cdot f' dx = \frac{2}{3} f^{\frac{3}{2}} + c$$

$$\int f \cdot f' dx = \frac{1}{2} f^2 + c$$

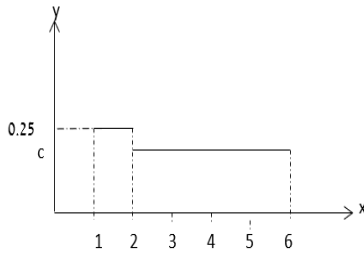
$$\int \cos f \cdot f' dx = \sin(f) + c$$

$$\int \frac{f'}{\sqrt{f}} dx = 2\sqrt{f} + c$$

$$\int u \cdot v' dx = u \cdot v - \int u' \cdot v dx$$

**שאלות:**

(1)  $X$  הינו משתנה רציף עם פונקציית צפיפות כמוצג בשרטוטו:



א. מצאו את ערכו של  $c$ .

ב. בנו את פונקציית ההתפלגות המצטברת.

ג. חשבו את ההסתברויות הבאות:

i.  $P(x < 4)$

ii.  $P(x > 1.5)$

iii.  $P(1.5 < x < 5)$

iv.  $P(5 < x < 10)$

v. מצאו את החציון של המשתנה.

(2) נתון משתנה מקרי רציף  $A$  שפונקציית הצפיפות שלו היא:

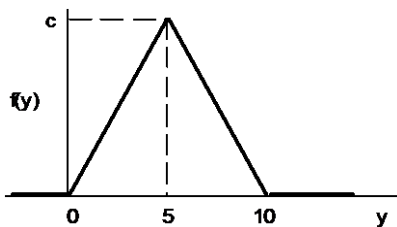
$$f(x) = \begin{cases} cx & 0 \leq x \leq b \\ 0 & \text{else} \end{cases}$$

וידוע ש-  $P(0 < X < 1) = \frac{1}{4}$

א. מצאו במפורש את פונקציית הצפיפות של  $X$ .

ב. מצאו את החציון של  $X$ .

ג. מה הסיכוי ש- $X$  קטן מ-0.5?



(3) נתונה פונקציית צפיפות של משתנה מקרי  $Y$ :

א. מצאו את  $c$ .

ב. מצאו את פונקציית ההתפלגות המצטברת של  $Y$ .

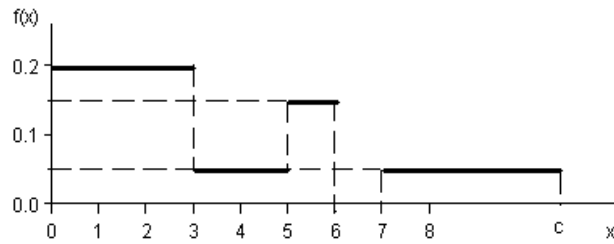
ג. חשבו את ההסתברויות הבאות:

$P(Y > 4)$ ,  $P(7.5 \leq Y \leq 15.5)$ ,  $P(Y \leq 3.0)$ ,  $P(Y = 7.0)$

ד. מצאו את העשירון התחתון:  $y_{0.1}$ , הרבעון התחתון:  $y_{0.25}$  והחציון של  $Y$ .

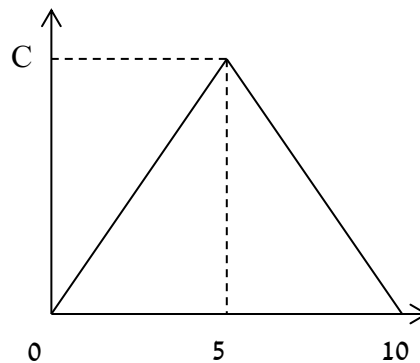
הסיקו מהו העשירון עליון:  $y_{0.9}$ .

4) נתונה פונקציית צפיפות של משתנה מקרי  $X$ :



- א. מצאו ערך  $c$  שעבורו תתקבל פונקציית צפיפות.  
 ב. מצאו את פונקציית ההתפלגות המצטברת.  
 ג. חשבו את ההסתברויות הבאות:  
 $P(1.0 < X \leq 5.0)$ ,  $P(X \geq -2.0)$ ,  $P(X \geq 4)$ .

5) נתונה פונקציית הצפיפות הבאה:



- א. מה ערכו של  $c$ ?  
 ב. מצאו אינטרוול (תחום) סימטרי סביב הערך 5, שהסיכוי ליפול בו הינו 0.5.  
 6) נתונה פונקציית צפיפות:  $f(X) = \frac{2}{x}$ , המוגדרת מ-1 עד  $K$ .  
 א. מצאו את ערכו של  $K$ .  
 ב. בנו את פונקציית ההתפלגות המצטברת.  
 ג. חשבו את הסיכוי ש- $X$  לפחות 1.5.  
 ד. מצאו את העשירון התחתון של ההתפלגות.  
 ה. מה התוחלת של  $X$ ?

7) נתונה פונקציית צפיפות הבאה:  $f(X) = AX^2(10 - X)$ ,  $0 < X < 10$ .

A הינו קבוע חיובי.

א. מצאו את A.

ב. חשב את:  $P(x > 5 | x > 2)$ .

ג. מה התוחלת ומהי השונות של X?

8) פונקציית הצפיפות של משתנה מקרי רציף X:

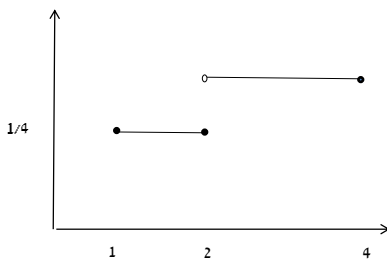
$$f(x) = 0.5 \cdot e^{2x}, \quad -\infty \leq X \leq \ln(c)$$

א. מצאו את ערכו של c.

ב. מצאו את פונקציית ההתפלגות המצטברת של ההתפלגות.

ג. חשב:  $P(X > 0)$ .

ד. מהו הרבעון העליון של ההתפלגות?



9) נתונה פונקציית הצפיפות הבאה של משתנה מקרי X:

א. רשמו את נוסחת פונקציית הצפיפות.

ב. בנו את פונקציית ההתפלגות המצטברת.

ג. מצאו את החציון של ההתפלגות.

ד. חשבו את התוחלת והשונות של המשתנה.

ה. חשבו את:  $E(X^3)$ .

10) במפעל מייצרים מוצר A. זמן תהליך הייצור של המוצר בשעות הוא בעל

$$f(x) = 6x(1-x), \quad 0 \leq x \leq 1$$

א. מה ההסתברות שזמן הייצור של מוצר A אקראי יהיה קטן מ-20 דקות?

ב. מה ההסתברות שזמן הייצור של מוצר A אקראי יהיה בדיוק חצי שעה?

ג. נבחרו חמישה מוצרים אקראיים מסוג A. מה תוחלת מספר המוצרים

שזמן הייצור שלהם יהיה גדול מ-20 דקות?

11) זמן ההמתנה בדקות של לקוח בתור למכולת השכונתית מתפלג עם פונקציית

$$F(t) = 1 - e^{-0.2t}$$

א. שרטטו את פונקציית ההתפלגות המצטברת.

ב. מה הסיכוי שזמן ההמתנה יהיה לפחות רבע שעה?

ג. אם חיכיתי בתור כבר 10 דקות מה ההסתברות שאאלץ לחכות בסך הכול

פחות מרבע שעה?

ד. מהו הזמן ש-90% מהלקוחות מחכים מתחתיו?

12) פונקציית הצפיפות של משתנה מקרי נתונה על ידי הנוסחה הבאה:

$$f(x) = \begin{cases} 0 & x < 4 \\ bx - 4b & 4 \leq x \leq 5 \\ b & 5 < x \leq 6 \\ 0 & x > 6 \end{cases}$$

- א. מצאו את  $b$ .  
 ב. חשבו את התוחלת של  $X$ .  
 ג.  $y$  הוא משתנה אינדיקטור המקבל את הערך 1 אם  $X$  קטן מ-5. מהי השונות של  $y$ ?

13) נתונה פונקציית הצפיפות הבאה:

$$f(x) = \begin{cases} \frac{x^2}{4} & 1 \leq x \leq 2 \\ kx & 2 < x \leq 3 \end{cases}$$

- א. מצאו את ערכו של  $k$ .  
 ב. מצאו את פונקציית ההתפלגות המצטברת.  
 ג. חשבו  $P(x > 2.5)$ .

14) להלן משתנה מקרי בעל פונקציית צפיפות הבאה:  $f(x) = \frac{1}{b-a}$ ,  $a \leq x \leq b$

- א. מצאו את פונקציית ההתפלגות המצטברת.  
 ב. חשב את התוחלת והשונות של ההתפלגות.  
 ג. מצאו את התוחלת של  $\frac{1}{X}$ .

## תשובות סופיות:

$$F(t) = \begin{cases} 0 & t < 1 \\ (t-1)0.25 & 1 \leq t \leq 2 \\ 0.25 + (t-2) \cdot \frac{3}{16} & 2 < t \leq 6 \\ 1 & t > 6 \end{cases} \quad \text{ב.} \quad \text{א. } \frac{3}{16} \quad (1)$$

ג. i.  $\frac{5}{8}$

ii.  $\frac{7}{8}$     iii.  $\frac{11}{16}$     iv.  $\frac{3}{16}$     ד.  $\frac{1}{3}$

א.  $b=2, c=0.5$     ב. 1.41    ג. 0.0625    (2)

$$F(t) = \begin{cases} 0 & t < 0 \\ 0.02t^2 & 0 \leq t \leq 5 \\ 1 - 0.02(t-10)^2 & 5 < t \leq 10 \\ 1 & t > 10 \end{cases} \quad \text{ב.} \quad \text{א. } 0.2 \quad (3)$$

ג. 0, 0.18, 0.125, 0.32

ד. עשירון תחתון: 2.24, רבעון תחתון: 3.54, החציון: 5, עשירון עליון: 7.76

$$F(t) = \begin{cases} 0 & t < 0 \\ 0.2t & 0 < t \leq 3 \\ 0.6 + (t-3) \cdot 0.05 & 3 < t \leq 5 \\ 0.7 + (t-5) \cdot 0.15 & 5 < t \leq 6 \\ 0.85 & 6 < t \leq 7 \\ 0.85 + (t-7) \cdot 0.05 & 7 < t \leq 10 \\ 1 & t > 10 \end{cases} \quad \text{ב.} \quad \text{א. } 0.10 \quad (4)$$

ג. 0.5

א.  $c=0.2$     ב.  $0.5 \pm 1.46$     (5)

$$F(t) = \begin{cases} 0 & t < 1 \\ 2 \cdot \ln t & 1 \leq t \leq e^{\frac{1}{2}} \\ 1 & t > e^{\frac{1}{2}} \end{cases} \quad \text{ב.} \quad \text{א. } e^{\frac{1}{2}} \quad (6)$$

ג. 0.189

ד. 1.051    ה. 1.297

א. 0.0012    ב. 0.7067    ג. תוחלת: 6, שונות: 4    (7)

$$(8) \quad \text{א. 2.} \quad \text{ב.} \quad F(t) = \begin{cases} \frac{1}{4}e^{2t} & t \leq \ln(2) \\ 1 & t > \ln(2) \end{cases} \quad \text{ג. 0.75} \quad \text{ד. 0.549}$$

$$(9) \quad \text{א.} \quad F(x) = \begin{cases} \frac{1}{4} & 1 \leq x \leq 2 \\ \frac{3}{8} & 2 < x \leq 4 \\ 0 & \text{אחרת} \end{cases} \quad \text{ב.} \quad F(t) = \begin{cases} 0 & t < 1 \\ (t-1)0.25 & 1 \leq t \leq 2 \\ 0.25 + (t-2) \cdot \frac{3}{8} & 2 < t \leq 4 \\ 1 & t > 4 \end{cases}$$

$$\text{ג. } 2\frac{2}{3} \quad \text{ד. תוחלת: } 2.625, \text{ שונות: } 0.6927 \quad \text{ה. } 23.4375$$

$$(10) \quad \text{א.} \quad \frac{7}{27} \quad \text{ב. } 0 \quad \text{ג. } 3.704$$

$$(11) \quad \text{א. עיין סרטוט בוידאו} \quad \text{ב. } 0.0498 \quad \text{ג. } 0.6321 \quad \text{ד. } 11.51$$

$$(12) \quad \text{א.} \quad \frac{2}{3} \quad \text{ב. } 5.22 \quad \text{ג. } \frac{2}{9}$$

$$(13) \quad \text{א.} \quad \frac{1}{6} \quad \text{ב.} \quad F(t) = \begin{cases} 0 & t < 1 \\ \frac{t^3-1}{12} & 1 \leq t \leq 2 \\ \frac{7}{12} + \frac{t^2-4}{12} & 2 < t \leq 3 \\ 1 & t > 3 \end{cases} \quad \text{ג. } 0.229$$

$$(14) \quad \text{א.} \quad F(t) = \begin{cases} 0 & t < a \\ \frac{(t-b)}{b-a} & a \leq t \leq b \\ 1 & t > b \end{cases} \quad \text{ב. תוחלת: } E(X) = \frac{a+b}{2}, \text{ שונות: } V(x) = \frac{(b-a)^2}{12}$$

$$\text{ג.} \quad \frac{\ln\left(\frac{b}{a}\right)}{b-a}$$

# מבוא להסתברות

פרק 31 - התפלגויות רציפות מיוחדות - התפלגות מעריכית

תוכן העניינים

1. כללי ..... 122

## התפלגויות רציפות מיוחדות – התפלגות מעריכית:

### רקע:

התפלגות זו היא התפלגות רציפה המאפיינת את הזמן עד להתרחשות מאורע מסוים.  $\lambda$  - הוא ממוצע מספר האירועים המתרחשים ביחידת זמן (אותו פרמטר מההתפלגות הפואסונית):  $X \sim \exp(\lambda)$  כאשר  $\lambda > 0$ .

התפלגות זו צריכה להיות נתונה בתרגיל או שיאמר שמספר האירועים ביחידת זמן מתפלג פואסונית ואז הזמן עד להתרחשות המאורע הבא מתפלג מעריכית.

### פונקציית הצפיפות של ההתפלגות:

$$f(x) = \lambda e^{-\lambda x} \quad \text{לכל } x \geq 0.$$

פונקציית ההתפלגות המצטברת:  $F(t) = p(x \leq t) = 1 - e^{-\lambda t}$ .

$$\text{התוחלת: } E(x) = \frac{1}{\lambda}$$

$$\text{השונות: } V(x) = \frac{1}{\lambda^2}$$

להתפלגות זו יש תכונת חוסר הזיכרון:  $P(X > a+b \mid X > a) = P(X > b)$ .

דוגמה (פתרון בהקלטה):

אורך חיי סוללה מתפלג מעריכית עם תוחלת של 8 שעות.

א. מה ההסתברות שסוללה תחזיק מעמד פחות מ-9 שעות?

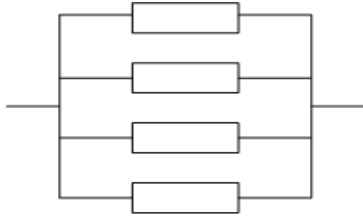
ב. מה סטיית התקן של אורך חיי הסוללה?

ג. אם סוללה כבר חייה מעל שעתיים, מה הסיכוי שהיא תחייה מעל 7 שעות בסך הכול?

## שאלות:

- (1) הזמן שלוקח במערכת עד שתקלה מתרחשת מתפלג מעריכית עם תוחלת של 0.5 שעה.
- מה הסתברות שהתקלה הבאה תתרחש תוך יותר מ-0.5 שעה?
  - מה ההסתברות שהתקלה הבאה תתרחש תוך פחות משעה?
  - מצא את הזמן החציוני להתרחשות תקלה במערכת.
- (2) הזמן שעובר בכביש מסוים עד להתרחשות תאונה מתפלג מעריכית עם תוחלת של 24 שעות.
- מהי סטיית התקן של הזמן עד להתרחשות תאונה?
  - מה ההסתברות שהתאונה הבאה תתרחש תוך פחות מיממה?
  - מהי ההסתברות שהתאונה הבאה תתרחש תוך לפחות יומיים?
- (3) משך הזמן X (בדקות) שסטודנטים עובדים רצוף על מחשב מתפלג מעריכית עם תוחלת של 30 דקות.
- מה הסיכוי שעבודת סטודנט על המחשב תארך פחות מרבע שעה?
  - מה הסיכוי שעבודת סטודנט על המחשב תארך בין רבע שעה לחצי שעה?
  - אם סטודנט עובד על המחשב כבר יותר מ-10 דקות, מה ההסתברות שמשך כל עבודתו יעלה על 30 דקות?
  - מהו הזמן שבסיכוי של 90% הסטודנט יעבוד פחות ממנו?
- (4) בממוצע מגיעים לחדר מיון 4 חולים בשעה בזרם פואסוני.
- שולה המזכירה הגיעה לחדר המיון. מה ההסתברות שזמן ההמתנה שלה לחולה הבא יהיה יותר מ-20 דקות?
  - אם שולה המתינה יותר מרבע שעה לחולה הבא. מה ההסתברות שתמתין בסך הכל יותר מחצי שעה?
  - מה ההסתברות שבין החולה הראשון לשני יש להמתין יותר מרבע שעה ובין החולה שני לשלישי יש להמתין פחות מרבע שעה?

5) מערכת חשמלית כוללת 4 רכיבים אלקטרוניים זהים הפועלים במקביל כמתואר בשרטוט:



על מנת שהמערכת תפעל בצורה תקינה נדרש שלפחות אחד מהמרכיבים יהיה תקין. אורך החיים של כל רכיב מתפלג מעריכית עם ממוצע של 100 שעות.

א. מה ההסתברות שהמערכת תפעל בצורה תקינה במשך 100 שעות לפחות?

ב. מעוניינים להוסיף במקביל עוד רכיב למערכת. עלות הוספת רכיב היא  $K$  ₪.

כמו כן אם המערכת עבדה פחות מ-100 שעות נגרם הפסד של  $A$  ₪.

מה התנאי שבו יהיה כדאי להוסיף את הרכיב למערכת?

### תשובות סופיות:

- |             |                  |          |     |
|-------------|------------------|----------|-----|
| א. 0.368    | ב. 0.865         | ג. 0.347 | (1) |
| א. 24 שעות. | ב. 0.632         | ג. 0.135 | (2) |
| א. 0.393    | ב. 0.239         | ג. 0.513 | (3) |
| א. 0.264    | ב. 0.368         | ג. 0.233 | (4) |
| א. 0.8403   | ב. $0.0588A < K$ | ד. 69.08 | (5) |

# מבוא להסתברות

פרק 32 - התפלגויות רציפות מיוחדות - התפלגות אחידה

תוכן העניינים

1. כללי ..... 125

## התפלגויות רציפות מיוחדות – התפלגות אחידה:

### רקע:

זו התפלגות שפונקציית הצפיפות שלה קבועה בין  $a$  לבין  $b$ .

$$. X \sim U(a, b)$$

### פונקציית הצפיפות:

$$. f(x) = \frac{1}{b-a}$$

$$a \leq x \leq b$$

### פונקציית ההתפלגות המצטברת:

$$. F(t) = \frac{t-a}{b-a}$$

### התוחלת:

$$. E(X) = \frac{a+b}{2}$$

### השונות:

$$. V(x) = \frac{(b-a)^2}{12}$$

דוגמה (פתרון בהקלטה):

$X$  - משתנה מקרי רציף המתפלג באופן אחיד בין 20 ל-40.

מה הסיכוי ש- $X$  קטן מ-25?

מה התוחלת והשונות של  $X$ ?

$$a = 20, b = 40$$

$$X \sim U(20, 40)$$

$$\text{א. } P(x < 25) = f(25) = \frac{25 - 20}{40 - 20} = 0.25$$

$$E(x) = \frac{20 + 40}{2} = 30$$

$$\text{ב. } V(x) = \frac{(40 - 20)^2}{12} = 33\frac{1}{3}$$

## שאלות:

- (1) משך (בדקות) הפסקה בשיעור,  $X$ , מתפלג:  $U(13,16)$ .
- מהי התוחלת ומהי סטיית התקן של משך ההפסקה?
  - מהי ההסתברות שהפסקה תמשך יותר מ-15 דקות?
  - מהי ההסתברות שמשך ההפסקה יסטה מהתוחלת בפחות מדקה?
- (2) רכבת מגיעה לתחנה בשעות היום כל עשר דקות. אדם הגיע לתחנה בזמן אקראי.
- הסבר כיצד מתפלג זמן ההמתנה לרכבת?
  - אם זמן ההמתנה לרכבת ארך יותר מ-5 דקות, מהי ההסתברות שבסך הכל האדם ימתין לרכבת פחות מ-8 דקות?
  - מה תוחלת מספר הימים שיעברו עד הפעם הראשונה שהאדם ימתין לרכבת יותר מ-9 דקות?
- (3) מכונה אוטומטית ממלאת גביעי גלידה. משקל הגלידה לגביע מתפלג אחיד בין 100-110 גרם (המשקל הוא של גלידה ללא הגביע).
- מה ההסתברות שמשקל הגלידה בגביע יהיה מעל 108 גרם?
  - נתון שהגלידה בגביע עם משקל נמוך מ-107 גרם. מה ההסתברות שמשקל הגלידה יהיה מעל 105 גרם?
  - מה העשירון העליון של משקל הגלידה בגביע?
  - עלות גביע גלידה היא 0.5 שקל. כל גרם של גלידה עולה 0.22 אגורות. מהי התוחלת ומהי סטיית התקן של עלות הגביע ביחד עם הגלידה?

## תשובות סופיות:

- (1) א. תוחלת: 14.5, שונות: 0.866. ב.  $\frac{1}{3}$ . ג.  $\frac{2}{3}$ .
- (2) א.  $X \sim U(0,10)$ . ב. 0.6. ג. 10.
- (3) א. 0.2. ב.  $\frac{2}{7}$ . ג. 109. ד. תוחלת: 73.1 אגורות, סטיית תקן: 0.635 אגורות.

# מבוא להסתברות

פרק 33 - התפלגויות רציפות מיוחדות - התפלגות נורמלית

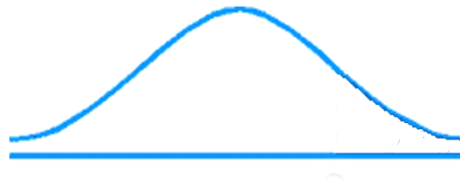
תוכן העניינים

1. כללי ..... 128

## התפלגויות רציפות מיוחדות – התפלגות נורמלית:

### רקע:

התפלגות נורמלית הינה התפלגות של משתנה רציף. ישנם משתנים רציפים מסוימים שנהוג להתייחס אליהם כנורמליים כגון: זמן ייצור, משקל תינוק ביום היוולדו ועוד. פונקציית הצפיפות של ההתפלגות הנורמלית נראית כמו פעמון:



לעקומה זו קוראים גם עקומת גאוס ועקומה אחת נבדלת מהשנייה באמצעות הממוצע וסטיית התקן שלה.

אלה הם הפרמטרים שמאפיינים את ההתפלגות:  $X \sim N(\mu, \sigma^2)$ .

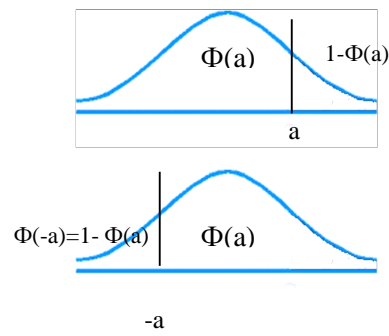
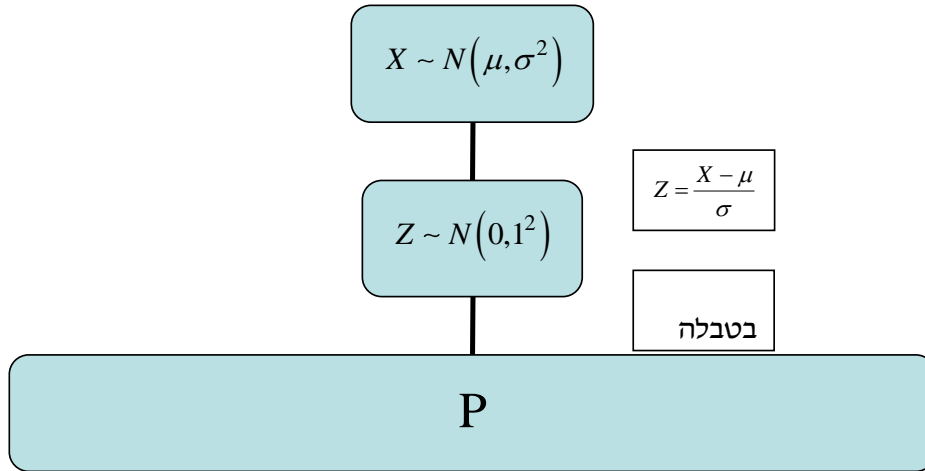
$$\text{נוסחת פונקציית הצפיפות: } f(x) = \frac{1}{\sqrt{2\pi\sigma^2}} e^{-\frac{(x-\mu)^2}{2\sigma^2}}$$

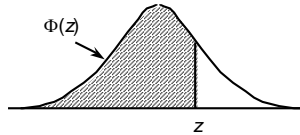
כדי לחשב הסתברויות בהתפלגות נורמלית יש לחשב את השטחים הרלוונטיים שמתחת לעקומה. כדי לחשב שטחים אלה נמיר כל התפלגות נורמלית להתפלגות נורמלית סטנדרטית על ידי תהליך הנקרא תקנון. התפלגות נורמלית סטנדרטית היא התפלגות נורמלית שהממוצע שלה הוא אפס וסטיית התקן היא אחת, והיא תסומן באות  $Z$ :  $Z \sim N(0, 1^2)$ .

$$\text{תהליך התקנון מבוצע על ידי הנוסחה הבאה: } Z = \frac{X - \mu}{\sigma}$$

אחרי תקנון מקבלים ערך הנקרא ציון תקן. ציון התקן משמעו בכמה סטיות תקן הערך סוטה מהממוצע.

לאחר חישוב ציון התקן של ערך מסוים נעזרים בטבלה של ההתפלגות הנורמלית הסטנדרטית לחישוב השטח הרצוי, ובאופן כללי נתאר את הסכמה הבאה:



**טבלת ההתפלגות המצטברת הנורמלית סטנדרטית – ערכי  $\Phi(z)$  :**


z	.00	.01	.02	.03	.04	.05	.06	.07	.08	.09
0.0	.5000	.5040	.5080	.5120	.5160	.5199	.5239	.5279	.5319	.5359
0.1	.5398	.5438	.5478	.5517	.5557	.5596	.5636	.5675	.5714	.5753
0.2	.5793	.5832	.5871	.5910	.5948	.5987	.6026	.6064	.6103	.6141
0.3	.6179	.6217	.6255	.6293	.6331	.6368	.6406	.6443	.6480	.6517
0.4	.6554	.6591	.6628	.6664	.6700	.6736	.6772	.6808	.6844	.6879
0.5	.6915	.6950	.6985	.7019	.7054	.7088	.7123	.7157	.7190	.7224
0.6	.7257	.7291	.7324	.7357	.7389	.7422	.7454	.7486	.7517	.7549
0.7	.7580	.7611	.7642	.7673	.7704	.7734	.7764	.7794	.7823	.7852
0.8	.7881	.7910	.7939	.7967	.7995	.8023	.8051	.8078	.8106	.8133
0.9	.8159	.8186	.8212	.8238	.8264	.8289	.8315	.8340	.8365	.8389
1.0	.8413	.8438	.8461	.8485	.8508	.8531	.8554	.8577	.8599	.8621
1.1	.8643	.8665	.8686	.8708	.8729	.8749	.8770	.8790	.8810	.8830
1.2	.8849	.8869	.8888	.8907	.8925	.8944	.8962	.8980	.8997	.9015
1.3	.9032	.9049	.9066	.9082	.9099	.9115	.9131	.9147	.9162	.9177
1.4	.9192	.9207	.9222	.9236	.9251	.9265	.9279	.9292	.9306	.9319
1.5	.9332	.9345	.9357	.9370	.9382	.9394	.9406	.9418	.9429	.9441
1.6	.9452	.9463	.9474	.9484	.9495	.9505	.9515	.9525	.9535	.9545
1.7	.9554	.9564	.9573	.9582	.9591	.9599	.9608	.9616	.9625	.9633
1.8	.9641	.9649	.9656	.9664	.9671	.9678	.9686	.9693	.9699	.9706
1.9	.9713	.9719	.9726	.9732	.9738	.9744	.9750	.9756	.9761	.9767
2.0	.9772	.9778	.9783	.9788	.9793	.9798	.9803	.9808	.9812	.9817
2.1	.9821	.9826	.9830	.9834	.9838	.9842	.9846	.9850	.9854	.9857
2.2	.9861	.9864	.9868	.9871	.9875	.9878	.9881	.9884	.9887	.9890
2.3	.9893	.9896	.9898	.9901	.9904	.9906	.9909	.9911	.9913	.9916
2.4	.9918	.9920	.9922	.9925	.9927	.9929	.9931	.9932	.9934	.9936
2.5	.9938	.9940	.9941	.9943	.9945	.9946	.9948	.9949	.9951	.9952
2.6	.9953	.9955	.9956	.9957	.9959	.9960	.9961	.9962	.9963	.9964
2.7	.9965	.9966	.9967	.9968	.9969	.9970	.9971	.9972	.9973	.9974
2.8	.9974	.9975	.9976	.9977	.9977	.9978	.9979	.9979	.9980	.9981
2.9	.9981	.9982	.9982	.9983	.9984	.9984	.9985	.9985	.9986	.9986
3.0	.9987	.9987	.9987	.9988	.9988	.9989	.9989	.9989	.9990	.9990
3.1	.9990	.9991	.9991	.9991	.9992	.9992	.9992	.9992	.9993	.9993
3.2	.9993	.9993	.9994	.9994	.9994	.9994	.9994	.9995	.9995	.9995
3.3	.9995	.9995	.9995	.9996	.9996	.9996	.9996	.9996	.9996	.9997
3.4	.9997	.9997	.9997	.9997	.9997	.9997	.9997	.9997	.9997	.9998

z	1.282	1.645	1.960	2.326	2.576	3.090	3.291	3.891	4.417
$\Phi(z)$	0.90	0.95	0.975	0.99	0.995	0.999	0.9995	0.99995	0.999995

דוגמה (הפתרון בהקלטה):

משקל חפיסות שוקולד המיוצרות בחברה מתפלג נורמלית עם ממוצע 100 גרם בסטיית תקן של 8 גרם.

- (1) מה אחוז חפיסות השוקולד ששוקלות מתחת ל-110 גרם?
- (2) מה אחוז חפיסות השוקולד ששוקלות מעל 110 גרם?
- (3) מה אחוז חפיסות השוקולד ששוקלות מתחת ל 92 גרם?
- (4) מהו המשקל ש-90% מהחפיסות בקו הייצור שוקלים פחות מהם?

## שאלות:

- (1) הגובה של אנשים באוכלוסייה מסוימת מתפלג נורמלית עם ממוצע של 170 ס"מ וסטית תקן של 10 ס"מ.
- מה אחוז האנשים שגובהם מתחת ל-182.4 ס"מ?
  - מה אחוז האנשים שגובהם מעל 190 ס"מ?
  - מה אחוז האנשים שגובהם בדיוק 173.6 ס"מ?
  - מה אחוז האנשים שגובהם מתחת ל-170 ס"מ?
  - מה אחוז האנשים שגובהם לכל היותר 170 ס"מ?
- (2) נתון שהזמן שלוקח לתרופה מסוימת להשפיע מתפלג נורמלית עם ממוצע של 30 דקות ושונות של 9 דקות רבועות.
- מהי פרופורציית המקרים בהן התרופה תעזור אחרי יותר משעה?
  - מה אחוז מהמקרים שבהן התרופה תעזור בין 35 ל-37 דקות?
  - מה הסיכוי שהתרופה תעזור בדיוק תוך 36 דקות?
  - מה שיעור המקרים שבהן ההשפעה של התרופה תסטה מ-30 דקות בפחות מ-3 דקות?
- (3) המשקל של אנשים באוכלוסייה מסוימת מתפלג נורמלית עם ממוצע של 60 ק"ג וסטית תקן של 8 ק"ג.
- מה אחוז האנשים שמשקלם נמוך מ-55 ק"ג?
  - מהי פרופורציית האנשים באוכלוסייה שמשקלם לפחות 50 ק"ג?
  - מהי השכיחות היחסית של האנשים באוכלוסייה שמשקלם בין 60 ל-70 ק"ג?
  - לאיזה חלק מהאוכלוסייה משקל הסוטה מהמשקל הממוצע בלא יותר מ-4 ק"ג?
  - מה הסיכוי שאדם אקראי ישקול מתחת ל-140 ק"ג?
- (4) משקל תינוקות ביום היוולדם מתפלג נורמלית עם ממוצע של 3300 גרם וסטית תקן 400 גרם.
- מצאו את העשירון העליון.
  - מצאו את האחוזון ה-95.
  - מצאו את העשירון התחתון.

- (5) ציוני מבחן אינטליגנציה מתפלגים נורמלית עם ממוצע 100 ושונויות 225.
- מה העשירון העליון של הציונים במבחן האינטליגנציה?
  - מה העשירון התחתון של ההתפלגות?
  - מהו הציון ש-20% מהנבחנים מקבלים מעליו?
  - מהו האחוזון ה-20?
  - מהו הציון ש-5% מהנבחנים מקבלים מתחתיו?
- (6) נפח משקה בבקבוק מתפלג נורמלית עם סטיית תקן של 20 מ"ל, ונתון ש-33% מהבקבוקים בעלי נפח שעולה על 508.8 מ"ל.
- מה ממוצע נפח משקה בבקבוק?
  - 5% מהבקבוקים המיוצרים עם הנפח הגבוה ביותר נשלחים לבדיקה, החל מאיזה נפח שולחים בקבוק לבדיקה?
  - 1% מהבקבוקים עם הנפח הקטן ביותר נתרמים לצדקה, מהו הנפח המקסימלי לצדקה?
- (7) אורך חיים של מכשיר מתפלג נורמלית. ידוע שמחצית מהמכשירים חיים פחות מ-500 שעות, כמו כן ידוע ש-67% מהמכשירים חיים פחות מ-544 שעות.
- מהו ממוצע אורך חיי מכשיר?
  - מהי סטית בתקן של אורך חיי מכשיר?
  - מה הסיכוי שמכשיר אקראי יחיה פחות מ-460 שעות?
  - מהו המאיון העליון של אורח חיי מכשיר?
  - 1% מהמכשירים בעלי אורך החיים הקצר ביותר נשלח למעבדה לבדיקה מעמיקה. מהו אורך החיים המקסימלי לשליחת מכשיר למעבדה?
- (8) להלן שלוש התפלגויות נורמליות של שלוש קבוצות שונות ששורטטו באותה מערכת צירים. ההתפלגויות מוספרו כדי להבדיל ביניהן.
- לאיזו התפלגות הממוצע הגבוה ביותר?
  - במה מבין המדדים הבאים התפלגות 1 ו-2 זהות?
    - בעשירון העליון.
    - בממוצע.
    - בשונויות.
  - לאיזו התפלגות סטיית התקן הקטנה ביותר?
    - 1.
    - 2.
    - 3.
    - אין לדעת.



- 9** הזמן שלוקח לאדם להגיע לעבודתו מתפלג נורמלית עם ממוצע של 40 דקות וסטית תקן של 5 דקות.
- א. מה ההסתברות שמשך הנסיעה של האדם לעבודתו יהיה לפחות שלושת רבעי השעה?
- ב. אדם יצא לעבודתו בשעה 08:10 מביתו. הוא צריך להגיע לעבודתו בשעה 09:00. מה הסיכוי שיאחר לעבודתו?
- ג. אם ידוע שזמן נסיעתו לעבודה היה יותר משלושת רבעי השעה. מה ההסתברות שזמן הנסיעה הכולל יהיה פחות מ-50 דקות?
- ד. מה הסיכוי שבשבוע (חמישה ימי עבודה) בדיוק פעם אחת יהיה זמן הנסיעה לפחות שלושת רבעי השעה?
- 10** ההוצאה החודשית לבית אב בעיר "טרירה" מתפלגת נורמלית עם ממוצע של 2000 דולר וסטית תקן של 300 דולר. בחרו באקראי 5 בתי אב. ההסתברות שלפחות אחד מהם מוציא בחודש מעל ל- $T$  דולר היא 0.98976.
- א. מה ערכו של  $T$ ?
- ב. מה הסיכוי שההוצאה החודשית של בית אב בעיר תהיה לפחות סטיית תקן אחת מעל  $T$ ?
- ג. מסתבר שנפלה טעות בנתונים, ויש להוסיף 100 דולר להוצאות החודשית של כל בתי האב בעיר. לאור זאת, מה ההסתברות שההוצאה החודשית של בית אב נמוכה מ-1800 דולר?
- 11** אורך שיר אקראי המשודר ברדיו מתפלג נורמלית עם תוחלת של 3.5 דקות וסטית תקן של שלושים שניות.
- א. מה ההסתברות שאורך של שיר אקראי המנוגן ברדיו יהיה בין 3 ל-2.5 דקות?
- ב. מהו הטווח הבין רבעוני של אורך שיר המשודר ברדיו?
- ג. ביום מסוים מנוגנים 200 שירים ברדיו. כמה שירים מתוכם תצפה שיהיו באורך הנמוך מ-3.5 דקות?
- ד. בשעה מסוימת שודרו 8 שירים. מה ההסתברות שרבע מהם בדיוק היו ארוכים מ-4 דקות והיתר לא?

**תשובות סופיות:**

ה. 50%	ד. 50%	ג. 0	ב. 2.28%	א. 89.25%	<b>(1)</b>
	ד. 68.26%	ג. 0%	ב. 3.76%	א. 0%	<b>(2)</b>
	ד. 0.383	ג. 39.44%	ב. 89.44%	א. 26.43%	<b>(3)</b>
				ה. 100%	
		ג. 2787.2	ב. 3958	א. 3812.8	<b>(4)</b>
	ד. 87.4	ג. 112.6	ב. 80.8	א. 119.2	<b>(5)</b>
		ג. 453.48	ב. 532.9	א. 500	<b>(6)</b>
	ד. 733	ג. 0.3446	ב. 100	א. 500	<b>(7)</b>
				ה. 267	
		ג. 1	ב. בממוצע.	א. 3	<b>(8)</b>
	ד. 0.3975	ג. 0.8563	ב. 0.0228	א. 0.1587	<b>(9)</b>
		ג. 0.1587	ב. 0.2266	א. 1925	<b>(10)</b>
	ד. 0.25	ג. 100	ב. 0.675	א. 0.1359	<b>(11)</b>

# מבוא להסתברות

פרק 34 - פונקציה יוצרת מומנטים

תוכן העניינים

1. כללי ..... 136

## פונקציה יוצרת מומנטים:

### רקע:

פונקציה יוצרת מומנטים של משתנה מקרי כלשהו מוגדרת להיות:  $M_X(t) = E(e^{tx})$ .  
 אם מדובר במשתנה מקרי בדיד, הפונקציה יוצרת המומנטים תהיה:

$$M_X(t) = E(e^{tX}) = \sum_k e^{tk} \cdot P(X = k)$$

אם מדובר במשתנה מקרי רציף, פונקציית יוצרת המומנטים תהיה:

$$M_X(t) = E(e^{tx}) = \int_x e^{tx} \cdot f(x) dx$$

המומנט מסדר  $n$  מוגדר להיות:  $E(X^n)$

מומנט מסדר  $n$  של משתנה מקרי  $X$  מתקבל מהנגזרת ה- $n$ ית לפי  $t$  של פונקציית

יוצרת המומנטים  $M_X(t)$  בנקודה שבה  $t = 0$ . כלומר:  $M_X^{(n)}(t)|_{t=0} = E(X^n)$

### משפט:

קיימת התאמה חד-חד-ערכית בין משתנה מקרי לבין פונקציית יוצרת המומנטים שלו.

### תזכורת מתמטית לנגזרות:

$$(x^n)' = nx^{n-1}$$

$$(k \cdot f(x))' = k \cdot f'(x)$$

$$(a^x)' = a^x \cdot \ln a$$

$$(e^x)' = e^x$$

$$(\log_a x)' = \frac{1}{x \ln a}$$

$$(\ln x)' = \frac{1}{x}$$

$$\left(\frac{1}{x}\right)' = -\frac{1}{x^2}$$

$$(k)' = 0$$

$$(f(x) \pm g(x))' = f'(x) \pm g'(x)$$

$$(f(x) \cdot g(x))' = f'(x)g(x) + g'(x)f(x)$$

$$\left(\frac{f(x)}{g(x)}\right)' = \frac{f'(x)g(x) - g'(x)f(x)}{(g(x))^2}$$

$$[f(g(x))]' = f'(g(x)) \cdot g'(x) \text{ - כלל שרשרת}$$

דוגמה (פתרון בהקלטה):

הראו שהפונקציה יוצרת המומנטים של ההתפלגות המעריכית:  $X \sim \exp(\lambda)$ ,

היא:  $\frac{\lambda}{\lambda - t}$ . מצאו את המומנט הראשון והמומנט השני של ההתפלגות.

## שאלות:

- (1) נתונה פונקציה ההסתברות הבאה למשתנה מקרי בדיד.  
 א. מצאו את פונקציית יוצרת המומנטים.  
 ב. מצאו את התוחלת על סמך סעיף א'.

$X$	1	2	3
$P(X)$	$\frac{1}{2}$	$\frac{1}{3}$	$\frac{1}{6}$

- (2) מצאו את פונקציית יוצרת המומנטים של התפלגות הבינומית:  $X \sim B(n, p)$ , ומצאו את המומנט הראשון והשני של הפונקציה.
- (3) מצאו את פונקציית יוצרת המומנטים של ההתפלגות הגיאומטרית:  $X \sim G(P)$ , וחשבו את תוחלת של ההתפלגות מתוך פונקציית יוצרת המומנטים.
- (4) מצאו את פונקציית יוצרת מומנטים של התפלגות הפואסונית:  $x \sim p(\lambda)$ . מצאו את המומנט הראשון והשני של ההתפלגות.

- (5) יהי  $X$  משתנה מקרי בעל פונקציית הצפיפות הבאה:

$$f(x) = \begin{cases} Ae^{-x} & 0 \leq x \leq 7 \\ 0 & \text{אחר } t \end{cases}$$

- א. מצאו את ערכו של  $A$ .  
 ב. מצאו את הפונקציה יוצרת המומנטים של  $X$ .

- (6) יהי  $X$  משתנה מקרי עם תוחלת 5 ושונות 16, ותהי  $m_x(t)$  פונקציית יוצרת המומנטים של  $X$ .  $Y$  הינו משתנה מקרי עם פונקציית יוצרת מומנטים  $m_y(t)$ , ונתון:  $m_y(t) = t \cdot m_x(t)$ .  
 חשבו את התוחלת והשונות של  $Y$ .

**תשובות סופיות:**

- (1) א. פונקציה יוצרת מומנטים:  $\frac{1}{2}e^t + \frac{1}{3}e^{2t} + \frac{1}{6}e^{3t}$  . ב.  $\frac{2}{3}$  .
- (2) פונקציה יוצרת מומנטים:  $(e^t \cdot p + 1 - p)^n$  .
- (3) פונקציה יוצרת מומנטים:  $\frac{e^t p}{1 - e^t \cdot (1 - p)}$  .
- (4) פונקציה יוצרת מומנטים:  $e^{\lambda(e^t - 1)}$  .
- (5) א.  $\frac{1}{1 - e^{-7}}$  . ב. פונקציה יוצרת מומנטים:  $\frac{e^7}{e^7 - 1} \cdot \frac{e^{7(t-1)} - 1}{t - 1}$  .
- (6) תוחלת: 1, שונות: 9.

## נספחים:

פונקציית התפלגות מצטברת $f(X)t$	פונקציית צפיפות $f(X)t$	התפלגות
$f_x(t) = \begin{cases} 0 & t < 0 \\ \frac{t-a}{b-a} & a \leq t \leq b \\ 1 & t > b \end{cases}$	$f_x(t) = \begin{cases} \frac{1}{(b-a)} & a \leq t \leq b \\ 0 & \text{else} \end{cases}$	אחיד $U(a,b)$
$f_x(t) = \begin{cases} 1 - e^{-\lambda t} & t \geq 0 \\ 0 & \text{else} \end{cases}$	$f_x(t) = \begin{cases} \lambda e^{-\lambda t} & t \geq 0 \\ 0 & \text{else} \end{cases}$	מעריכי $\exp(\lambda)$
$\phi\left(\frac{t-\mu}{\sigma}\right)$	$f_x(t) = \frac{1}{\sqrt{2\pi\sigma^2}} e^{-\frac{(t-\mu)^2}{2\sigma^2}}$	נורמלית $N(\mu, \sigma^2)$

התפלגות	$E(X)$	$VAR(X)$	$M_X(t)$
אחיד $U(a,b)$	$\frac{b-a}{2}$	$\frac{(b-a)^2}{12}$	$\frac{e^{tb} - e^{ta}}{t(b-a)}$
מעריכי $\exp(\lambda)$	$\frac{1}{\lambda}$	$\frac{1}{\lambda^2}$	$\frac{\lambda}{\lambda - t}$
נורמלית $N(\mu, \sigma^2)$	$\mu$	$\sigma^2$	$e^{\mu t + \frac{\sigma^2 t^2}{2}}$

$M_X(t)$	$Var(x)$	$E(x)$	$P_X(x)$	משמעות	משתנה מקרי
$[pe^t + q]^n$	$n \cdot p \cdot q$	$n \cdot p$	$\binom{n}{x} p^x q^{n-x}$ $x = 0, 1, \dots, n$	חוזרים באופן בלתי תלוי על אותו ניסוי ברנולי $n$ פעמים: $P$ ההסתברות להצלחה. $1 - P = q$ ההסתברות לכישלון $X$ - מספר ההצלחות	בינומי $Bin(n, p)$
$\frac{pe^t}{1 - qe^t}$	$\frac{q}{p^2}$	$\frac{1}{p}$	$pq^{x-1}$ $x = 1, 2, \dots, \infty$	חוזרים באופן בלתי תלוי על אותו ניסוי ברנולי עד ההצלחה הראשונה. $X$ - מספר ניסויים עד הצלחה ראשונה.	גיאומטרי $G(P)$
$e^{\lambda(e^t - 1)}$	$\lambda$	$\lambda$	$e^{-\lambda} \frac{\lambda^x}{x!}$	$X$ - מספר ההופעות בלידת זמן. מ"מ המקבל ערכים $.0, 1, \dots, \infty$ .	פואסוני $Pois(\lambda)$

# מבוא להסתברות

פרק 35 - תכונות של פונקציית יוצרת מומנטים

תוכן העניינים

1. כללי ..... 142

## תכונות של פונקציה יוצרת מומנטים:

### רקע:

להלן מספר תכונות שפונקציית יוצרת מומנטים מקיימת:

- קיימת התאמה חד-חד-ערכית בין משתנה מקרי לבין פונקציית יוצרת המומנטים שלו.
- השפעת טרנספורמציה לינארית על פונקציית יוצרת מומנטים:

$$M_{aX+b}(t) = e^{bt} M_X(at)$$

- אם  $X$  ו- $Y$  משתנים בלתי תלויים מתקיים ש:

$$M_{X+Y}(t) = E(e^{t \cdot X}) \cdot E(e^{t \cdot Y}) = M_X(t) \cdot M_Y(t)$$

## תזכורת:

$F_x(t)$ פונקציית התפלגות מצטברת	$f_x(t)$ פונקציית צפיפות	התפלגות
$f_x(t) = \begin{cases} 0 & t < 0 \\ \frac{t-a}{b-a} & a \leq t \leq b \\ 1 & t < b \end{cases}$	$f_x(t) = \begin{cases} \frac{1}{(b-a)} & a \leq t \leq b \\ 0 & \text{else} \end{cases}$	אחיד $U(a,b)$
$f_x(t) = \begin{cases} 1 - e^{-\lambda t} & t \geq 0 \\ 0 & \text{else} \end{cases}$	$f_x(t) = \begin{cases} \lambda e^{-\lambda t} & t \geq 0 \\ 0 & \text{else} \end{cases}$	מעריכי $\exp(\lambda)$
$\phi\left(\frac{t-\mu}{\sigma}\right)$	$f_x(t) = \frac{1}{\sqrt{2\pi\sigma^2}} e^{-\frac{(t-\mu)^2}{2\sigma^2}}$	נורמלית $N(\mu, \sigma^2)$

התפלגות	$E(X)$	$VAR(X)$	$M_X(t)$
אחיד $U(a,b)$	$\frac{a+b}{2}$	$\frac{(b-a)^2}{12}$	$\frac{e^{tb} - e^{ta}}{t(b-a)}$
מעריכי $\exp(\lambda)$	$\frac{1}{\lambda}$	$\frac{1}{\lambda^2}$	$\frac{\lambda}{\lambda - t}$
נורמלית $N(\mu, \sigma^2)$	$\mu$	$\sigma^2$	$e^{\mu t + \frac{\sigma^2 t^2}{2}}$

$M_X(t)$	$Var(x)$	$E(x)$	$P_X(x)$	משמעות	משתנה מקרי
$[pe^t + q]^n$	$n \cdot p \cdot q$	$n \cdot p$	$\binom{n}{x} p^x q^{n-x}$ $x = 0, 1, \dots, n$	חוזרים באופן בלתי תלוי על אותו ניסוי ברנולי $n$ פעמים: $P$ ההסתברות להצלחה $1 - P = q$ ההסתברות לכישלון $x$ : מספר הצלחות	בינומי $Bin(n, p)$
$\frac{pe^t}{1 - qe^t}$	$\frac{q}{p^2}$	$\frac{1}{p}$	$pq^{x-1}$ $x = 1, 2, \dots, \infty$	חוזרים באופן בלתי תלוי על אותו ניסוי ברנולי עד הצלחה הראשונה. $x$ : מספר ניסויים עד הצלחה ראשונה	גיאומטרי $G(p)$
$e^{\lambda(e^t - 1)}$	$\lambda$	$\lambda$	$e^{-\lambda} \frac{\lambda^x}{x!}$ $0, 1, \dots, \infty$	$x$ : מספר ההופעות בלידת זמן. מ"מ המקבל ערכים $0, 1, \dots, \infty$	פואסוני $Pois(\lambda)$

דוגמה (פתרון בהקלטה):

נתון:  $Y \sim P(\lambda = 2)$   $X \sim P(\lambda = 4)$

$X$  ו- $Y$  הינם בלתי תלויים.

א. מהי פונקציית יוצרת המומנטים של:  $5X - 3$ ?

ב. נגדיר את:  $T = X + Y$ . מה ההתפלגות של  $T$ ?

**שאלות:**

(1) נתון ש-  $X_i \sim p(\lambda)$  בלתי תלויים.

א. מצאו את פונקציית יוצרת מומנטים של  $\sum_{i=1}^n X_i$ .

ב. הוכיחו ש-  $\sum_{i=1}^n X_i \sim P(n \cdot \lambda)$ .

(2) נתון:  $Y \sim P(\lambda = 2)$ ,  $X \sim P(\lambda = 10)$ .

$X$  ו- $Y$  הינם בלתי תלויים. נגדיר את:  $T = X + Y$ .

א. מצאו את פונקציית יוצרת המומנטים של  $T$ .

ב. הוכיחו ש-  $T \sim P(\lambda = 12)$ .

ג. הוכיחו ש-  $X/T = 8 \sim B\left(8, \frac{5}{6}\right)$ . כלומר, ההתפלגות של  $X$ ,

בהינתן ש- $T = 8$  היא בינומית עם הפרמטרים:  $n = 8$  ו- $p = \frac{5}{6}$ .

(3) יהי:  $X_i \sim \exp(1)$ ,  $i = 1, 2, \dots, n$  והמשתנים הם בלתי תלויים.

$$T = \sum_{i=1}^n X_i$$

נגדיר את

א. מצאו את פונקציית יוצרת המומנטים של  $T$ .

ב. חשבו את התוחלת והשונות של  $T$ .

ג. יהי:  $Z = \frac{T - E(T)}{\sigma(T)}$  כלומר התקנון של  $T$ .

מצאו את פונקציית יוצרת המומנטים של  $Z$ .

(4) נתון שפונקציית יוצרת מומנטים של ההתפלגות הנורמלית נתונה על ידי

$$M_X(t) = e^{\mu t + \frac{\sigma^2 t^2}{2}}$$

הנוסחה הבאה: לכל  $t$ , כאשר:  $X \sim N(\mu, \sigma^2)$ .

א. הוכיחו שאם  $Y = 2X$  אזי  $Y \sim N(2\mu, 4\sigma^2)$ .

ב. הוכיחו שאם  $T = X_1 + X_2$  ו- $X_1$  ו- $X_2$  בלתי תלויים מאותה התפלגות

נורמלית אז מתקיים ש:  $T \sim N(2\mu, 2\sigma^2)$ .

### תשובות סופיות:

(1) א. פונקציה יוצרת מומנטים:  $e^{(n\lambda)(e^t-1)}$ . ב. שאלת הוכחה.

(2) א. פונקציה יוצרת מומנטים:  $e^{12(e^t-1)}$ . ב. שאלת הוכחה.

ג. שאלת הוכחה.

(3) א. פונקציה יוצרת מומנטים:  $\left(\frac{1}{1-t}\right)^n$ . ב. תוחלת:  $n$ , שונות:  $n$ .

ג. פונקציה יוצרת מומנטים:  $e^{-n^2 t} \cdot \left(\frac{1}{1 - \left(\frac{1}{n^2} t\right)}\right)^n$

(4) א. שאלת הוכחה. ב. שאלת הוכחה.

# מבוא להסתברות

פרק 36 - משתנה דו מימדי בדיד - פונקציית הסתברות משותפת

תוכן העניינים

1. כללי ..... 147

## משתנה דו מימדי בדיד – פונקציית הסתברות משותפת:

### רקע:

התפלגות דו ממדית הינה התפלגות שדנה בשני משתנים. נרצה כעת לבנות פונקציית הסתברות דו ממדית, בה יש התפלגות של שני משתנים בו זמנית:  $X$  ו- $Y$ .

### דוגמה:

תלמיד ניגש בסמסטר לשני מבחנים: מבחן בכלכלה ומבחן בסטטיסטיקה. כמו כן, נתון שהסיכוי לעבור את המבחן בכלכלה הנו 0.8, הסיכוי לעבור את המבחן בסטטיסטיקה הנו 0.9 והסיכוי לעבור את שני המבחנים הנו 0.75. יהי  $X$  מספר הקורסים שהסטודנט עבר. ויהי  $Y$  משתנה אינדיקטור המקבל את הערך 1 אם הסטודנט עבר את הבחינה בכלכלה, ו-0 אחרת. בנו את פונקציית ההסתברות המשותפת של  $X$  ו- $Y$ .

### נחשב את כל ההסתברויות המשותפות:

$$p(x=0, y=0) = 0.05$$

$$p(x=0, y=1) = 0$$

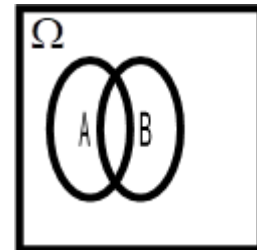
$$p(x=1, y=0) = 0.15$$

$$p(x=1, y=1) = 0.05$$

$$p(x=2, y=0) = 0$$

$$p(x=2, y=1) = 0.75$$

$y/x$	0	1	2
0	0.05	0.15	0
1	0	0.05	0.75



שימו לב שסכום כל ההסתברויות בפונקציית ההסתברות המשותפת הוא 1.

כעת נסכם את השורות ואת העמודות ונקבל את פונקציית הסתברות שוליות:

$Y/X$	0	1	2	$P_Y$
0	0.05	0.15	0	0.2
1	0	0.05	0.75	0.8
$P_X$	0.05	0.2	0.75	1

### משתנים בלתי תלויים:

$X$  ו- $Y$  יהיו משתנים בלתי תלויים, אם עבור כל  $X$  ו- $Y$  אפשריים התקיים הדבר

$$\text{הבא: } p(x=k, y=l) = p(x=k) \cdot p(y=l).$$

מספיק פעם אחת שהמשתנים אינם מקיימים תנאי זה אזי הם תלויים.

### דוגמה:

$$p(x=2, y=1) = 0.75 \neq p(x=2) \cdot p(y=1) = 0.75 \cdot 0.8 = 0.6$$

ככלל, אם יש אפס בתוך פונקציית ההסתברות המשותפת ניתן להבין באופן מידי שהמשתנים תלויים, שאז הרי התנאי לא מתקיים. אך אם אין אפס בטבלה, אין זה אומר שהמשתנים בלתי תלויים ויש לבדוק זאת.

**שאלות:**

- (1) אדם נכנס לקזינו עם 75 דולר. הוא ישחק במכונת מזל בה יש סיכוי של 0.3 לנצח. במקרה של ניצחון במשחק הוא יקבל מהקזינו 25 דולר ובמקרה של הפסד הוא ישלם 25 דולר. אותו אדם החליט שיפסיק לשחק ברגע שיהיה לו 100 דולר, אך בכל מקרה לא ישחק יותר מ-3 משחקים. נגדיר את  $X$  להיות הכסף שברשות האדם בצאתו מהקזינו ואת  $Y$  כמספר המשחקים שהאדם שיחק.
- בנו את פונקציית ההסתברות המשותפת והשוליות.
  - מה תוחלת מספר המשחקים שישחק האדם?
  - אם האדם יצא מהקזינו שברשותו 100 דולר, מה התוחלת ומהי השונות של מספר המשחקים ששיחק?

- (2) להלן פונקציית ההסתברות המשותפת והשוליות של שני משתנים מקריים בדידים:

$Y / X$	0	1	2	$P(Y)$
2		0.08	0.12	0.4
3	0.1	0.05		
4				0.45
$P(X)$		0.4	0.2	

- השלימו את ההסתברויות החסרות בטבלה.
  - האם  $X$  ו- $Y$  תלויים?
  - מצאו את הסתברות ש- $Y = 3$ , אם ידוע ש- $X = 1$ .
- (3) מפעל משווק מוצר הנארז בחבילות בגדלים שונים. ישנו מספר שווה של חבילות בנות שני מוצרים ושלושה מוצרים. ההסתברות שמוצר מסוים יהיה פגום היא  $\frac{1}{10}$ . מהנדס הייצור בוחר באקראי חבילת מוצרים לשם בקרת איכות. יהי  $X$  מספר המוצרים בחבילה, ו- $Y$  מספר המוצרים הפגומים בחבילה.
- מה ההתפלגות של המשתנה  $Y$  בהינתן  $x = 3$ .
  - מה ההתפלגות של המשתנה  $Y$  בהינתן  $X$  הינו  $K$  כלשהו.
  - מהי תוחלת מספר המוצרים הפגומים בחבילות בנות 3 מוצרים? נמקו.
  - בנו את פונקציית ההסתברות המשותפת.

- (4) מתוך כד עם 3 כדורים ממוספרים במספרים 2, 4, 8 שולפים באקראי שניים ללא החזרה. יהי  $X$  המספר הקטן מבין השניים ו- $Y$  הגדול מביניהם.
- א. חשבו את ההתפלגות של  $(X, Y)$ .
- ב. אם המספר המינימאלי שנבחר הוא 2, מה הסיכוי שהמקסימאלי הוא 8?
- ג. חשבו את ההתפלגות המותנית של  $X$  בהינתן  $Y = 4$ . מצאו:  $E(X / Y = 4)$ .
- (5) ביישוב שני סניפי בנק. סניף פועלים וסניף לאומי. להלן הנתונים לגבי האוכלוסייה הבוגרת המתגוררת ביישוב: ל-60% יש חשבון בסניף פועלים של היישוב, ל-50% יש חשבון בסניף לאומי של היישוב ול-95% יש חשבון בלפחות אחד מהסניפים. יהי  $X$  מספר הסניפים בישוב אשר לתושב בוגר יש בהם חשבון, ויהי  $Y$  משתנה אינדיקטור:
- 1 – אם יש לתושב חשבון בסניף פועלים.  
 0 – אחרת.
- א. בנו את פונקציית ההסתברות המשותפת של  $X$  ו- $Y$ .
- ב. הוסיפו את פונקציית ההסתברות השולית.
- ג. ידוע שלתושב בוגר חשבון בבנק פועלים, מה ההסתברות שיש לו חשבון בנק בסניף אחד בלבד?

**תשובות סופיות:**

1) א. להלן טבלה: ב. 2.4 ג. תוחלת: 1.348, שונות: 0.575.

$x \setminus y$	0	50	100	$P(y)$
1	0	0	0.3	0.3
3	0.343	0.294	0.063	0.7
$P(x)$	0.343	0.294	0.363	1

2) א. להלן טבלה: ב. תלויים. ג. 0.125.

$x \setminus y$	0	1	2	$P(y)$
2	0.2	0.08	0.12	0.4
3	0.1	0.05	0	0.15
4	0.1	0.27	0.08	0.45
$P(x)$	0.4	0.4	0.2	1

3) א.  $y/x=3 \sim B\left(n=3, p=\frac{1}{10}\right)$  ב.  $y/x=k \sim B\left(n=k, p=\frac{1}{10}\right)$

ג. 0.3 ד. להלן טבלה:

$x \setminus y$	2	3	$P(y)$
0	0.405	0.3645	
1	0.09	0.1215	
2	0.005	0.0135	
3	0	0.0005	
$P(x)$	0.5	0.5	1

4) א. להלן טבלה: ב. 0.5 ג. תוחלת: 2.

$x \setminus y$	2	4	$P(y)$
4	$\frac{1}{3}$	$\frac{2}{3}$	$\frac{1}{3}$
8	$\frac{1}{3}$	$\frac{1}{3}$	$\frac{2}{3}$
$P(x)$	$\frac{2}{3}$	$\frac{1}{3}$	1

5) א+ב. להלן טבלה: ג. 0.75.

$x \setminus y$	0	1	2	$P(y)$
0	0.05	0.35	0	0.4
1	0	0.45	0.15	0.6
$P(x)$	0.05	0.8	0.15	1

# מבוא להסתברות

פרק 37 - משתנה דו מימדי בדיד - מתאם בין משתנים

תוכן העניינים

1. כללי ..... 153



### השפעת טרנספורמציה לינארית על מקדם המתאם:

$$\rho[(aX+b), (cY+d)] = \begin{cases} \rho(X,Y) & \text{if } a \cdot c > 0 \\ -\rho(X,Y) & \text{if } a \cdot c < 0 \end{cases}$$

כלומר, טרנספורמציה לינארית על שני משתנים לא משנה את עוצמת הקשר ביניהם היא עלולה לשנות רק את כיוון הקשר.

### דוגמה (פתרון בהקלטה):

נחזור לדוגמה שהוצגה בפרק הקודם:

תלמיד ניגש בסמסטר לשני מבחנים מבחן בכלכלה ומבחן בסטטיסטיקה. כמו כן, נתון שהסיכוי לעבור את המבחן בכלכלה הנו 0.8, הסיכוי לעבור את המבחן בסטטיסטיקה הנו 0.9 והסיכוי לעבור את שני המבחנים הנו 0.75.

יהי  $X$  מספר הקורסים שהסטודנט עבר, ויהי  $Y$  משתנה אינדיקטור המקבל את הערך 1, אם הסטודנט עבר את הבחינה בכלכלה, ו-0 אחרת. נחשב את מקדם המתאם:

$X/Y$	0	1	2	$P_Y$
0	0.05	0.15	0	0.2
1	0	0.05	0.75	0.8
$P_X$	0.05	0.2	0.75	1

$X$	0	1	2
$P_X$	0.05	0.2	0.75

$$E(X) = \sum_i x_i P(x_i) = \mu = 0 \cdot 0.05 + 1 \cdot 0.2 + 2 \cdot 0.75 = 1.7$$

$$V(X) = \sum_i (x_i - \mu)^2 P(x_i) = \sum_i x_i^2 P(x_i) - \mu^2 = 0^2 \cdot 0.05 + 1^2 \cdot 0.2 + 2^2 \cdot 0.75 - 1.7^2 = 0.31 = \sigma^2$$

$y$	$P_Y$
0	0.2
1	0.8

$$\sigma_x = \sqrt{V(X)} = \sqrt{0.31} = 0.557$$

$$E(y) = \sum_i y_i P(y_i) = 0 + 0.8 = 0.8$$

$$V(y) = \sum_i (y_i - \mu_y)^2 P(y_i) = \sum_i y_i^2 P(y_i) - \mu_y^2 = 0 + 0.8 - 0.8^2 = 0.16 = \sigma_y^2$$

$$\sigma_y = \sqrt{0.16} = 0.4$$

$$E(xy) = 0 \cdot 0 \cdot 0.05 + 0 \cdot 1 \cdot 0 + 1 \cdot 0 \cdot 0.15 + 1 \cdot 1 \cdot 0.05 + 2 \cdot 0 \cdot 0 + 2 \cdot 1 \cdot 0.75 = 1.55$$

$$\text{cov}(x, y) = E(x \cdot y) - E(x) \cdot E(y) = 1.55 - 1.7 \cdot 0.8 = 0.19$$

$$\rho = \frac{\text{cov}(x, y)}{\sigma_x \cdot \sigma_y} = \frac{0.19}{0.557 \cdot 0.4} = 0.853$$

כל קורס שהסטודנט מסיים מזכה אותו ב-3 נקודות אקדמאיות.  
מה יהיה מקדם המתאם בין נקודות הזכות שיצבור למשתנה  $Y$ ?

## שאלות:

- (1) הסיכוי שסטודנט יעבור את המבחן במועד א' בסטטיסטיקה הוא 0.8. אם הוא נכשל במועד א' הוא ניגש למועד ב' שם הסיכוי לעבור את המבחן מוערך ב-0.9 (סטודנט שעובר את א' לא ניגש לב'). במידה והסטודנט נכשל במועד ב' הוא מגיש בקשה למועד ג' אותה מאשרים בסיכוי של 0.2, והסיכוי שלו לעבור את מועד ג' הוא 0.7.
- נגדיר את  $X$  להיות מספר המבחנים אליהם ניגש הסטודנט, ונגדיר את  $Y$  להיות מספר המבחנים שנכשל בהם.
- בנו את פונקציית ההסתברות המשותפת ואת פונ' ההסתברות השולית.
  - האם המשתנים הינם בלתי תלויים?
  - ידוע שהסטודנט ניגש ליותר ממבחן אחד, מה ההסתברות שהוא נכשל בפחות משלושה מבחנים?
  - האם המתאם בין  $X$  ל- $Y$  מלא או חלקי? חיובי או שלילי? הסבירו ללא חישוב.
  - חשבו את מקדם המתאם בין  $X$  לבין  $Y$ .
  - האם המשתנים הם בלתי מתאומים?
- (2) נטיל מטבע שלוש פעמים. נגדיר את  $X$  להיות מספר העצים המתקבלים בשתי ההטלות הראשונות, ואת  $Y$  להיות מספר העצים המתקבלים בשתי ההטלות האחרונות.
- בנו את פונקציית ההסתברות המשותפת של  $X$  ו- $Y$  ואת פונקציות ההסתברות השוליות.
  - האם  $X$  ו- $Y$  הם משתנים בלתי תלויים?
  - מהו מקדם המתאם בין  $X$  ל- $Y$ . האם המשתנים מתאומים?
  - אם בשתי ההטלות הראשונות יצא בדיוק עץ אחד, מה ההסתברות שבשתי ההטלות האחרונות יצאו שני עצים?
  - אם בשתי ההטלות האחרונות יצא לפחות פעם אחת עץ, מה ההסתברות שבשתי ההטלות הראשונות יצא עץ אחד?
- (3) נפזר שלושה כדורים שונים בשלושה תאים. נגדיר את המשתנים הבאים:
- $X$  - מספר הכדורים בתא הראשון.
  - $Y$  - מספר הכדורים בתא השני.
- בנו את פונקציית ההסתברות המשותפת.
  - האם המשתנים בלתי מתאומים?

- (4) קובייה הוגנת הוטלה פעמיים. יהי  $X$  ההטלה הגדולה מבין שתי התוצאות, ויהי  $Y$  מס' ההטלות בהן יצאה תוצאה זוגית.
- מצאו את פונקציית ההסתברות המשותפת של  $X$  ו- $Y$ .
  - חשבו את מקדם המתאם של  $X$  ו- $Y$ .
  - מצאו את ההתפלגות של  $Y$  בהינתן ש- $X = 2$ .
- (5) בבניין שלנו 5 דירות. דירות מספר אחת ושלוש הן דירות משופצות והשאר אינן. הוחלט לבחור שתי דירות באקראי מבין הדירות בבניין. נגדיר את המשתנים הבאים:
- $X$  - מספר הדירות המשופצות שנבחרו.
  - $Y$  - מספר הדירות האי זוגיות שנדגמו.
- בנו את פונקציית ההסתברות המשותפת ואת פונקציית ההסתברות השולית.
  - האם המשתנים מתואמים?
  - מה מקדם המתאם בין  $X$  לבין  $Y$ ?
  - מה יהיה מקדם המתאם:
- בין מספר הדירות המשופצות למספר הדירות הזוגיות שנדגמו.
  - בין מספר הדירות הזוגיות לדירות האי זוגיות שנדגמו.
- ה. כל דירה משופצת עולה 2 מיליון ₪ וכל דירה לא משופצת עולה 1.5 מיליון ₪. מה המתאם בין עלות הדירות שנדגמו למספר הדירות הזוגיות?

**תשובות סופיות:**

(1) א. להלן טבלה: ב. תלויים. ג. 0.994 ד. חלקי חיובי.

$x \setminus y$	1	2	3	$P(y)$
0	0.8	0	0	0.8
1	0	0.18	0	0.18
2	0	0.016	0.0028	0.0188
3	0	0	0.0012	0.0012
$P(x)$	0.8	0.196	0.004	1

ה. 0.963 ו. מתואמים.

(2) א. להלן טבלה: ב. תלויים. ג. מקדם המתאם: 0.5, מתואמים.

$x \setminus y$	0	1	2	$P(y)$
0	$\frac{1}{8}$	$\frac{1}{8}$	0	$\frac{2}{8}$
1	$\frac{1}{8}$	$\frac{2}{8}$	$\frac{1}{8}$	$\frac{4}{8}$
2	0	$\frac{1}{8}$	$\frac{1}{8}$	$\frac{2}{8}$
$P(x)$	$\frac{2}{8}$	$\frac{4}{8}$	$\frac{2}{8}$	1

ד. 0.25 ה. 0.5

(3) א. להלן טבלה: ב. מתואמים.

$x \setminus y$	0	1	2	3
0	$\frac{1}{27}$	$\frac{3}{27}$	$\frac{3}{27}$	$\frac{1}{27}$
1	$\frac{3}{27}$	$\frac{6}{27}$	$\frac{3}{27}$	0
2	$\frac{3}{27}$	$\frac{3}{27}$	0	0
3	$\frac{1}{27}$	$\frac{6}{27}$	0	0

4) א. להלן טבלה: ב. 0.252.

$x \setminus y$	1	2	3	4	5	6
0	$\frac{1}{36}$	0	$\frac{3}{36}$	0	$\frac{5}{36}$	0
1	0	$\frac{2}{36}$	$\frac{2}{36}$	$\frac{4}{36}$	$\frac{4}{36}$	$\frac{6}{36}$
2	0	$\frac{1}{36}$	0	$\frac{3}{36}$	0	$\frac{5}{36}$

ג.  $\frac{2}{3}$ .

5) א. להלן טבלה: ב.  $X$  ו- $Y$  מתואמים.

$x \setminus y$	0	1	2	$P(y)$
0	0.1	0	0	0.1
1	0.2	0.4	0	0.6
2	0	0.2	0.1	0.3
$P(x)$	0.3	0.6	0.1	1

ה.  $-\frac{2}{3}$ .

ii. -1.

ד. i.  $-\frac{2}{3}$ .

# מבוא להסתברות

פרק 38 - המשתנה המקרי הדו ממדי - קומבינציות לינאריות

תוכן העניינים

1. כללי ..... 160

## המשתנה המקרי הדו ממדי – קומבינציות לינאריות:

**רקע:**

יהיו שני משתנים מקריים  $X$  ו- $Y$ .  
התוחלת והשונות של סכומם היא:

$$E(X+Y) = E(X) + E(Y)$$

$$V(X+Y) = V(X) + V(Y) + 2 \cdot \text{cov}(X, Y)$$

התוחלת והשונות של הפרשם היא:

$$E(X-Y) = E(X) - E(Y)$$

$$V(X-Y) = V(X) + V(Y) - 2 \cdot \text{cov}(X, Y)$$

**קומבינציה ליניארית:**

יוצרים משתנה חדש שהוא קומבינציה לינארית של שני משתנים אחרים:  
 $W = (aX + b) + (cY + d)$ . אזי:

$$\text{cov}[(aX + b), (cY + d)] = a \cdot c \cdot \text{cov}(X, Y)$$

$$E(W) = E((aX + b) + (cY + d)) = aE(X) + b + cE(Y) + d$$

$$V(W) = V((aX + b) + (cY + d)) = a^2V(X) + c^2V(Y) + 2 \cdot a \cdot c \cdot \text{cov}(X, Y)$$

**דוגמה (פתרון בהקלטה):**

- נתונים שני משתנים מקריים  $X$  ו- $Y$  המקיימים:  
 $\mu_X = 80$ ,  $\sigma_X = 15$ ,  $\mu_Y = 70$ ,  $\sigma_Y = 20$ ,  $\text{cov}(X, Y) = 200$
- מצאו את התוחלת והשונות של סכום המשתנים.
  - מצאו את התוחלת והשונות של  $X$  ו- $Y$ .
  - מצאו את השונות ומה התוחלת של המשתנה  $W = 2X + 3Y$ .

**שאלות:**

(1) נתונה פונקציית ההסתברות המשותפת הבאה:

$Y / X$	1	2	3	$P(X)$
2		0.1	0.3	0.6
3	0.2		0.1	
$P(X)$				

- א. השלימו את ההסתברויות החסרות.
- ב. האם המשתנים תלויים?
- ג. האם המשתנים בלתי מתואמים?
- ד. חשבו את השונות המשותפת.
- ה. חשבו את התוחלת והשונות של סכום המשתנים.
- ו. חשבו את התוחלת והשונות של הפרש המשתנים.

(2) מבחן בנוי מחלק כמותי וחלק מילולי. תוחלת הציון בחלק הכמותי היא 100, עם סטיית תקן 20. תוחלת הציונים בחלק המילולי היא 90 עם סטיית תקן 15. מקדם המתאם בין הציון הכמותי לציון המילולי הוא 0.8.

- א. חשבו את השונות המשותפת בין הציון הכמותי לציון המילולי.
- ב. חשבו את התוחלת והשונות של סכום הציונים בחלק הכמותי ובחלק המילולי.
- ג. חשבו את התוחלת והשונות של הפרש הציונים בין החלק הכמותי לחלק המילולי.
- ד. עלות הבחינה 2000 שקלים. הוחלט לזכות שקל עבור כל נקודה שנצברה בחלק המילולי ושני שקלים עבור כל נקודה שנצברה בחלק הכמותי. מהי התוחלת ומהי השונות של עלות הבחינה נטו (העלות לאחר הזיכוי)?

(3) נתון:  $\text{var}(X + 2Y) = 3$ ,  $\text{var}(X - 2Y) = 2$ .  
חשבו:  $\text{cov}(X, Y)$ .

(4) מטילים קובייה  $n$  פעמים. נגדיר את המשתנים הבאים:  
 $X$  = מספר הפעמים שהתקבלה התוצאה 6.  
 $Y$  = מספר הפעמים שהתקבלה התוצאה 5.  
 בטאו את השונות המשותפת באמצעות  $n$ .

## תשובות סופיות:

(1) א. להלן טבלה:      ב. תלויים.      ג. מתואמים.      ד. -0.1.

$x \setminus y$	1	2	3	$P(y)$
2	0.2	0.1	0.3	0.6
3	0.2	0.1	0.1	0.4
$P(x)$	0.4	0.2	0.4	1

ה. תוחלת: 4.4, שונות: 0.84.      ו. תוחלת: -0.4, שונות: 1.24.

(2) א. 240.      ב. תוחלת: 190, שונות: 1105.

ג. תוחלת: 10, שונות: 145.      ד. תוחלת: 1710, שונות: 2785.

(3) -0.125.

(4)  $-\frac{n}{36}$ .

# מבוא להסתברות

פרק 39 - המשתנה המקרי הדו ממדי הבדיד - שאלות מסכמות

תוכן העניינים

1. שאלות מסכמות ..... 163

## המשתנה המקרי הדו ממדי הבדיד – שאלות מסכמות:

**רקע:**

**משתנים בלתי תלויים:**

יהיו משתנים  $X$  ו- $Y$ . הם יהיו משתנים בלתי תלויים אם עבור כל  $X$  ו- $Y$  אפשריים מתקיים:  $p(x=k, y=l) = p(x=k) \cdot p(y=l)$ .

**מקדם המתאם:**

מגדירים את מקדם המתאם:  $\rho = \frac{\text{cov}(x, y)}{\sigma_x \cdot \sigma_y}$ .

**שוונות משותפת:**

מגדירים את השונות המשותפת:

$$\text{cov}(x, y) = E[(x - \mu_x)(y - \mu_y)] = E(x \cdot y) - E(x) \cdot E(y)$$

תכונות של השונות המשותפת:

$$1. \text{cov}(X, Y) = \text{cov}(Y, X)$$

$$2. \text{cov}(X, X) = \text{var}(X)$$

$$3. \text{cov}[(aX + b), (cY + d)] = a \cdot c \cdot \text{cov}(X, Y)$$

**משתנים בלתי מתואמים:**

משתנים בלתי מתואמים הם משתנים שמקדם המתאם שלהם אפס וכדי שדבר כזה יקרה השונות המשותפת צריכה להתאפס.

השפעת טרנספורמציה לינארית על מקדם המתאם:

$$\rho[(aX+b), (cY+d)] = \begin{cases} \rho(X,Y) & \text{if } a \cdot c > 0 \\ -\rho(X,Y) & \text{if } a \cdot c < 0 \end{cases}$$

תוחלת ושונות של סכום משתנים:

$$E(X+Y) = E(X) + E(Y) \quad V(X+Y) = V(X) + V(Y) + 2 \cdot \text{cov}(X, Y)$$

קומבינציות לינאריות:

נגדיר קומבינציה ליניארית כללית באופן הבא:  $W = (aX+b) + (cY+d)$   
 אזי מתקיים:

$$E(W) = E((aX+b) + (cY+d)) = aE(X) + b + cE(Y) + d$$

$$V(W) = V((aX+b) + (cY+d)) = a^2V(X) + c^2V(Y) + 2 \cdot a \cdot c \cdot \text{cov}(X, Y)$$

## שאלות:

- (1) יש ליצור סיסמה בת 3 תווים. כל תו יכול להיבחר רק מתוך כלל התווים הבאים:  $A, B, C, 1, 2$ . יהי  $X$  מספר הפעמים שהספרה 1 מופיעה בסיסמה, ויהי  $Y$  מספר הפעמים שהספרה 1 מופיעה בקצה הסיסמה (שני הקצוות).
- זהו את ההתפלגויות השוליות של  $X$  ו- $Y$  כהתפלגויות מיוחדות.
  - מצאו את ההתפלגות המשותפת של  $X$  ושל  $Y$ .
  - מצאו את מקדם המתאם בין  $X$  ל- $Y$ .
  - מהו המתאם בין  $2X$  ל- $3Y+5$ ?
- (2) במסיבת סוף שנה ישנו ארגז קרח ובתוכו 7 בקבוקי בירה: 4 "מכבי", 2 "גולדסטאר" ו-1 "טבורג". קרן לקחה 3 בקבוקי בירה באקראי מתוך ארגז הקרח. נסמן ב- $X$  את מספר בקבוקי "מכבי" שנלקחו על ידי קרן, ונסמן ב- $Y$  את מספר בקבוקי "טבורג" שנלקחו על ידי קרן.
- בנו את פונקציית ההסתברות המשותפת של  $X$  ושל  $Y$ .
  - חשבו את התוחלת והשונות של  $X$  ושל  $Y$ .
  - מצאו את השונות המשותפת של  $X$  ושל  $Y$ .
  - נגדיר את  $W$  כמספר בקבוקי ה"גולדסטאר" שנלקחו על ידי קרן. בטאו את  $W$  באמצעות  $X$  ו- $Y$ , וחשבו את התוחלת והשונות של  $W$  על סמך התוצאות שהתקבלו בשני הסעיפים הקודמים בלבד.
  - מהו מקדם המתאם בין מספר בקבוקי "מכבי" שנלקחו על ידי קרן, למספר בקבוקים שאינם "מכבי" שנלקחו על ידי קרן?
- (3) במגירה 6 זוגות נעליים. יהודה הוציא מהמגירה 4 נעליים (לא בהכרח זוגות) באקראי. נסמן ב- $W$  את מספר זוגות הנעליים שהוציא יהודה, ונסמן ב- $R$  את מספר הנעליים השמאליות שהוציא יהודה.
- מצא את ההתפלגות המשותפת של המשתנים שהוצגו.
  - האם המשתנים שהוצגו בלתי תלויים?
  - מצא את התפלגות מספר הנעליים השמאליות שהוצאו אם בסך הכול הוצא זוג נעלים יחיד על ידי יהודה.
  - אם ידוע שהוצאו לפחות 3 נעליים שמאליות מה הסיכוי שהוצא לכל היותר זוג אחד?

- (4) בכד 5 כדורים כחולים, 4 כדורים לבנים ו-3 כדורים ירוקים. בוחרים באקראי וללא החזרה 3 כדורים. נגדיר את המשתנים הבאים:
- $X$  - מקבל את הערך 1 אם נבחר לפחות כדור אחד כחול, ו-0 אחרת.
- $Y$  - מספר הכדורים הלבנים שנבחרו.
- א. חשבו את  $P(X=1)$ .
- ב. בנו את פונקציית ההסתברות המשותפת של  $X$  ו- $Y$ .
- ג. מה התוחלת של  $Y$ , אם ידוע שלא הוצאו כדורים כחולים?
- ד. מה השונות של  $X$ , אם ידוע שהוצא לכל היותר כדור לבן אחד?
- (5) ביום ההולדת הרביעי של טל הוא מחלק שלושה פרסים שונים באקראי ל-5 ילדים. בכל פעם שטל מחלק פרס הוא בוחר באקראי ילד מתוך ה-5 באופן אקראי ובלתי תלוי בבחירות הקודמות. נגדיר את המשתנים הבאים:
- $X$  - מספר הפרסים שקיבלה יוליה.
- $Y$  - מספר הילדים שלא קיבלו פרס.
- א. בנו את פונקציית ההסתברות המשותפת והשוליות של  $X$  ו- $Y$ .
- ב. האם  $X$  ו- $Y$  הם משתנים בלתי מתואמים?
- ג. מצאו את התוחלת של  $X \cdot Y^2$ .
- ד. מה מקדם המתאם בין מספר הפרסים שקיבלה יוליה, למספר הילדים שקיבלו פרס?
- (6) קבעו אילו מהטענות הבאות נכונות. נמקו.
- א. אם שני משתנים הם מתואמים, אזי הם תלויים.
- ב. אם שני משתנים הם תלויים, אזי הם מתואמים.
- ג. אם שני משתנים הם בלתי תלויים, אזי הם בלתי מתואמים.
- ד. אם שני משתנים הם בלתי מתואמים, אזי הם בלתי תלויים.
- (7) במקום עבודה 50 עובדים מתוכם 25 גברים ו-25 נשים. כל עובד נתבקש לבחור מתנה לחג. לכל עובד מוצגות 5 אופציות, מתוכן הוא צריך לבחור אחת. העובדים בוחרים מתנה באקראי ובאופן בלתי תלוי זה בזה.
- נסמן  $X_i$  - מספר הגברים שבחרו במתנה  $i$ .
- נסמן  $Y_i$  - מספר הנשים שבחרו במתנה  $i$ .
- א. האם  $X_1$  ו- $Y_1$  הם משתנים בלתי תלויים? אין צורך לחשב רק להסביר.
- ב. האם  $X_1$  ו- $X_2$  הם משתנים בלתי תלויים? אין צורך לחשב רק להסביר.
- ג. מהי ההתפלגות של  $X_1 + X_2$ ?
- ד. האם המתאם בין  $X_1$  ו- $X_2$  מלא או חלקי? חיובי או שלילי? אין צורך לחשב רק להסביר.

(8) הוכיחו את הזהות הבאה עבור שלושת המשתנים  $X, Y$  ו- $Z$  :  
 $\text{cov}(X+Y, Z) = \text{cov}(X, Z) + \text{cov}(Y, Z)$ .

(9) מספר העלים שנושרים בסתיו מהעץ בגינה מתפלג פואסונית עם תוחלת של 50 עלים בדקה. נסמן ב- $Y$  את מספר העלים שנושרים מהעץ בין 12:00 ל-12:10, ונסמן ב- $Q$  את מספר העלים שנושרים בין 12:05 ל-12:30.  
 א. חשבו את:  $\text{cov}(4Y, Q+6)$ .  
 ב. מה המתאם בין  $Y$  ל- $Q$ ?

(10) בסל יש 20 כדורים אדומים, 20 ירוקים ו-20 כחולים. מוציאים באקראי מהסל 20 כדורים. מצאו את מקדם המתאם בין מספר הכדורים האדומים שהוצאו למספר הכדורים הירוקים שהוצאו.

(11) נתון ש:  $Y \sim B(1, p)$  כאשר  $0 < p < 1$ .  
 הוכיחו שאם מתקיים:  $P(X = x | Y = 0) = P(X = x | Y = 1)$  לכל  $X$ , אז  $X$  ו- $Y$  הם משתנים בלתי תלויים.

(12) נתון ש- $X \sim B(n, p)$  וכן:  $Y \sim B(m, p)$ , שאינם תלויים זה בזה.  
 הוכיחו שמתקיים:  $X | X+Y = k \sim HG(n+m, n, k)$ .

## תשובות סופיות:

$$(1) \quad X \sim B\left(3, \frac{1}{5}\right), Y \sim B\left(2, \frac{1}{5}\right) \quad \text{א.}$$

ב. להלן טבלה: ג. 0.816 . ד. 0.816 .

$X/Y$	0	1	2	3	$P_Y$
0	$\frac{64}{125}$	$\frac{16}{125}$	0	0	$\frac{80}{125}$
1	0	$\frac{32}{125}$	$\frac{8}{125}$	0	$\frac{40}{125}$
2	0	0	$\frac{4}{125}$	$\frac{1}{125}$	$\frac{5}{125}$
$P_X$	$\frac{64}{125}$	$\frac{48}{125}$	$\frac{12}{125}$	$\frac{1}{125}$	1

$$(2) \quad \text{א. להלן טבלה: ב. } E(X) = \frac{12}{7}, V(X) = \frac{24}{49}, E(Y) = \frac{3}{7}, V(Y) = \frac{12}{49} .$$

$X/Y$	0	1	2	3	$P_Y$
0	0	$\frac{3}{35}$	$\frac{12}{35}$	$\frac{4}{35}$	$\frac{20}{35}$
1	$\frac{1}{35}$	$\frac{8}{35}$	$\frac{6}{35}$	0	$\frac{15}{35}$
$P_X$	$\frac{1}{35}$	$\frac{12}{35}$	$\frac{18}{35}$	$\frac{4}{35}$	1

$$\text{ג. } -\frac{8}{49} . \quad \text{ד. } E(W) = \frac{6}{7}, V(W) = \frac{20}{49} . \quad \text{ה. } -1 .$$

(3) א. להלן טבלה: ב. המשתנים תלויים.

$R/W$	0	1	2	$P_R$
0	$\frac{15}{495}$	0	0	$\frac{15}{495}$
1	$\frac{60}{495}$	$\frac{60}{495}$	0	$\frac{120}{495}$
2	$\frac{90}{495}$	$\frac{120}{495}$	$\frac{15}{495}$	$\frac{225}{495}$
3	$\frac{60}{495}$	$\frac{60}{495}$	0	$\frac{120}{495}$
4	$\frac{15}{495}$	0	0	$\frac{15}{495}$
$P_W$	$\frac{240}{495}$	$\frac{240}{495}$	$\frac{15}{495}$	1

ג. להלן טבלה: ד. 1.

$R/w = 1$	1	2	3
$P(R/w = 1)$	$\frac{1}{4}$	$\frac{2}{4}$	$\frac{1}{4}$

א.  $\frac{185}{220}$  ב. להלן טבלה: ג. 1.714 ד. 0.071

$X/Y$	0	1	$P_Y$
0	$\frac{1}{220}$	$\frac{55}{220}$	$\frac{56}{220}$
1	$\frac{12}{220}$	$\frac{100}{220}$	$\frac{112}{220}$
2	$\frac{18}{220}$	$\frac{30}{220}$	$\frac{48}{220}$
3	$\frac{4}{220}$	0	$\frac{4}{220}$
$P_X$	$\frac{35}{220}$	$\frac{185}{220}$	1

א. להלן טבלה: ב.  $X$  ו- $Y$  בלתי מתואמים. (5)

$X/Y$	0	1	2	3	$P_Y$
2	$\frac{24}{125}$	$\frac{36}{125}$	0	0	$\frac{60}{125}$
3	$\frac{36}{125}$	$\frac{12}{125}$	$\frac{12}{125}$	0	$\frac{60}{125}$
4	$\frac{4}{125}$	0	0	$\frac{1}{125}$	$\frac{5}{125}$
$P_X$	$\frac{64}{125}$	$\frac{48}{125}$	$\frac{12}{125}$	$\frac{1}{125}$	1

ג. 4.128 ד. 0.

א. נכון. ב. לא נכון. ג. נכון. ד. לא נכון. (6)

- 7) א. בלתי תלויים.      ב. תלויים.      ג.  $x_1 + x_2 \sim B\left(n = 25, p = \frac{2}{5}\right)$ .
- ד. חלקי ושלילי.
- 8) שאלת הוכחה.
- 9) א. 1000.      ב. 0.316.
- 10) -0.5.
- 11) שאלת הוכחה.
- 12) שאלת הוכחה.

# מבוא להסתברות

פרק 40 - התפלגות מולטינומית

תוכן העניינים

171 ..... 1. כללי

## התפלגות מולטינומית:

### רקע:

ההתפלגות המולטינומית היא התפלגות רב-ממדית, המציינת את תוצאות סדרה של  $n$  ניסויים בלתי תלויים. לכל ניסוי  $r$  תוצאות אפשריות עם סדרת הסתברויות

$$\text{הצלחה: } (p_1, p_2, \dots, p_r) \text{ כאשר מתקיים ש: } \sum_{i=1}^r p_i = 1$$

עבור:  $i = 1, 2, \dots, r$ , הרכיבו  $Y_i$  של המשתנה המולטינומי מציין את מספר הפעמים

$$\text{בהן נתקבלה התוצאה ה-} i \text{, כאשר: } \sum_{i=1}^r Y_i = n$$

בצורה כללית ניתן לרשום את ההתפלגות המולטינומית באופן הבא:

$$Y \sim \text{multi}(n, p_1, p_2, \dots, p_r)$$

פונקציית ההסתברות המשותפת הרב מימדית היא:

$$P(Y_1 = y_1, \dots, Y_r = y_r) = \binom{n}{y_1, y_2, \dots, y_r} \cdot p_1^{y_1} \cdot p_2^{y_2} \cdot \dots \cdot p_r^{y_r} = \frac{n!}{y_1! \cdot y_2! \cdot \dots \cdot y_r!} p_1^{y_1} \cdot p_2^{y_2} \cdot \dots \cdot p_r^{y_r}$$

### דוגמה (הפתרון בהקלטה):

להלן תוצאות ההצבעה לעיר "מטושן":

המועמד	% מצביעים
טד סול	62%
בוב שפירו	12%
דורית מון	26%

נבחרו באקראי, ועם החזרה, 8 מצביעים מהעיר מטושן.

א. מה ההסתברות ש-4 מהם יצביעו עבור טד סול, 1 עבור בוב שפירו והיתר עבור דורית מון?

ב. רשמו את פונקציית ההסתברות המשותפת של מספר מצביעים במדגם לכל מתמודד.

## שאלות:

- (1) בכד 2 כדורים ירוקים, 4 כדורים כחולים ו-4 אדומים. נשלפו באקראי ועם החזרה בין כדור לכדור 12 כדורים. חשבו את ההסתברויות הבאות:
- א. 3 כדורים יהיו ירוקים ו-5 כדורים יהיו כחולים.
  - ב. 3 כדורים יהיו ירוקים.
  - ג. אם נתון שהוצאו 3 כדורים ירוקים, מה הסיכוי שהוצאו 5 כחולים?
- (2) נטיל קובייה הוגנת 10 פעמים.
- א. מה הסיכוי לקבל פעם אחת את התוצאה 1, פעמיים את התוצאה 2 ושלוש פעמים את התוצאה 3?
  - ב. מצאו את התוחלת והשונות של מספר הפעמים שתתקבל התוצאה 1?
- (3)  $X$  הינו משתנה מקרי המתפלג מולטינומי כאשר:
- $$p_1 = 0.5, p_2 = 0.3, p_3 = 0.2, n = 20$$
- $X_i$  הוא מספר הניסויים שבהם התקבלה התוצאה  $i$  כאשר:  $i = 1, 2, 3$ .
- א. כיצד  $X_2$  מתפלג?
  - ב. כיצד  $X_2 + X_3$  מתפלג?
  - ג. האם  $X_1$  ו- $X_2$  הינם משתנים בלתי תלויים?
  - ד. כיצד  $X_2 | X_1 = 5$  מתפלג?
- (4)  $X$  הינו משתנה מקרי המתפלג מולטינומי.
- א. יש להוכיח שלכל  $i \neq j$  מתקיים ש:  $COV(X_i, X_j) = -n \cdot p_i \cdot p_j$ .
  - ב. מהו מקדם המתאם בין  $X_i, X_j$ ? בטאו התשובה באמצעות  $n, p_i, p_j$ .

## תשובות סופיות:

- (1) א. 0.0581      ב. 0.2362      ג. 0.246
- (2) א. 0.0169      ב. תוחלת:  $\frac{5}{3}$ , שונות:  $\frac{25}{18}$
- (3) א. בינומי עם  $p = 0.3$ ,  $n = 20$       ב. בינומי עם  $p = 0.5$ ,  $n = 20$
- ג. לא.      ד. בינומי עם  $p = 0.6$ ,  $n = 20$
- (4) א. הוכחה.      ב.  $-\sqrt{\frac{p_i \cdot p_j}{(1-p_i) \cdot (1-p_j)}}$

# מבוא להסתברות

פרק 41 - אי שוויונים בהסתברות

תוכן העניינים

174	.....	1. אי שוויון מרקוב
178	.....	2. אי שוויון צ'בישב

## אי-שוויון מרקוב:

**רקע:**

אי-שוויון מרקוב רלבנטי לשימוש עבור כל משתנה מקרי אי-שלילי.

הפרמטר  $a$  הינו ממשי וחיובי ואז חייב להתקיים ש:  $P(X \geq a) \leq \frac{E[X]}{a}$ ,

לכן מתקיים גם ש:  $P(X < a) \geq 1 - \frac{E[X]}{a}$ .

**דוגמה:**

אורך חיים של מכשיר מתפלג עם תוחלת של 500 שעות. חשבו לפי אי-שוויון מרקוב את ההסתברות שאורך חיים של מכשיר יהיה לפחות 1500 שעות.

$X =$  אורך חיים של מכשיר (רציף).

$$X \geq 0, E[X] = 500$$

$$P(X \geq 1500) \leq \frac{E[X]}{a} = \frac{500}{1500} = \frac{1}{3}$$

לכן,  $0 \leq P(X \geq 1500) \leq \frac{1}{3}$ .

## שאלות:

- (1) ידוע מניסיון העבר כי ציון במבחן הגמר של סטודנט הוא משתנה מקרי שתוחלתו 65. מצאו חסם עליון להסתברות שציון מבחן הגמר של סטודנט יהיה לפחות 75.
- (2) התפלגות מספר הילדים למשפחה במדינה מסוימת היא עם תוחלת של 2 ילדים. נלקחו 5 משפחות אקראיות. העריכו את הסיכוי שבסה"כ בחמשת המשפחות יש יותר מ-15 ילדים.
- (3)  $X$  משתנה מקרי רציף אי-שלילי, שתוחלתו 15. האם ייתכן ש:  $P(X > 65) = 0.3$ ?
- (4)  $X$  משתנה מקרי בדיד, המקיים:  $X > -2$ , ותוחלתו 6. מצאו חסם תחתון ל-  $P(X < 10)$ .
- (5)  $X$  משתנה מקרי המקיים:  $P(X \geq 0) = 1$  ו-  $s > 0$  קבוע ממשי. הוכיחו כי:  $P(X < sE(X)) \geq \frac{s-1}{s}$ .
- (6) נתון ש-  $X_i \sim P(\lambda)$ ,  $i = 1, 2, \dots, n$  הם משתנים בלתי תלויים. מצאו חסמים להסתברות ש-  $\sum_{i=1}^n X_i \geq 3n\lambda$ .
- (7) הוכיחו את אי-שוויון מרקוב. רמז: היעזרו במשתנה אינדיקטור המקבל את הערך 1 כאשר  $X \geq a$ .

(8) בשכונה חדשה בונים  $n$  בתים חדשים הנבנים בחלקת אדמה עגולה. כל בית נצבע בלבן בסיכוי  $p$  ללא תלות בבתיים האחרים. בניין שלא נצבע בלבן נצבע באפור. בית לבן הוא בית בודד אם הוא נמצא בין שני בתים אפורים. נגדיר את  $X$  להיות מספר הבתים הלבנים הבודדים.

א. מצאו את התוחלת של  $X$ .

ב. כעת נניח ש- $p = \frac{1}{4}$ . הראו שהסיכוי שמספר הבתים הלבנים הבודדים

$$\text{יהיה קטן מ-} \frac{n}{4} \text{ הוא לפחות } \frac{7}{16}.$$

(9) הוכיחו את אי-שוויון צ'בישב: אם  $X$  הוא משתנה מקרי שתוחלתו ושונותו הן

$$P\{|X - E(X)| \geq k\} \leq \frac{\text{Var}(X)}{k^2}.$$

רמז: היעזרו באי-שוויון מרקוב.

**תשובות סופיות:**

$$. P(X \geq 75) \leq \frac{65}{75} = \frac{13}{15} \quad (1)$$

$$. 0 \leq P\left(\sum_{i=1}^n X_i \geq 3n\lambda\right) \leq \frac{1}{3} \quad (2)$$

(3) לא יתכן.

$$. \frac{1}{3} \quad (4)$$

(5) שאלת הוכחה.

$$. 0 \leq P\left(\sum_{i=1}^n X_i \geq 3n\lambda\right) \leq \frac{1}{3} \quad (6)$$

(7) שאלת הוכחה.

(8) א.  $n \cdot p(1-p)^2$ . ב. שאלת הוכחה.

(9) שאלת הוכחה.

## אי-שוויון צ'בישב:

**רקע:**

אם  $X$  הוא משתנה מקרי שתוחלתו ושונוותו הן סופיות, אז לכל ערך  $a$  חיובי

$$. P\{|X - E(X)| \geq a\} \leq \frac{\text{Var}(X)}{a^2} \quad \text{מתקיים:}$$

$$. P\{|X - E(X)| < a\} \geq 1 - \frac{\text{Var}(X)}{a^2} \quad \text{מכאן גם נובע שמתקיים:}$$

אי-שוויון צ'בישב נותן חסמים להסתברות סימטרית סביב התוחלת ללא צורך בדיעת ההתפלגות של המשתנה המקרי  $X$ .

**דוגמה:**

נתון משתנה מקרי עם סטיית תקן של 3. האם יתכן שההסתברות שהסטייה של המשתנה המקרי מתוחלתו תהיה קטנה מ-5 היא 0.6?

$$\sigma(X) = 3$$

$$: \text{נציב, } P\{|X - E(X)| < a\} \geq 1 - \frac{\text{Var}(X)}{a^2}$$

$$P\{|X - E(X)| < 5\} \geq 1 - \frac{3^2}{5^2} = 1 - \frac{9}{25} = \frac{16}{25} = 0.64$$

$P\{|X - E(X)| < 5\} \neq 0.6$ , לכן לא יתכן.

## שאלות:

- (1) מצאו חסמים להסתברויות הבאות עבור משתנה מקרי רציף בעל תוחלת 8 וסטית תקן 3:
- א.  $p(2 < x < 14)$ .
- ב.  $p(|x - 8| \geq 9)$ .
- (2) האם קיים משתנה מקרי  $X$  בעל תוחלת  $\mu$  וסטית תקן  $\sigma$  שעבורו מתקיים  $P(\mu - 3\sigma \leq X \leq \mu + 3\sigma) = 0.7$ ? הסבירו.
- (3) מספר המטוסים המגיעים לנמל תעופה ב-20 דקות מתפלג התפלגות פואסונית עם תוחלת של 100. היעזרו באי-שוויון צ'בישב כדי למצוא גבול תחתון להסתברות שמספר המטוסים המגיעים בתקופה בת 20 דקות נתונה תהיה בין 80 ל-120.
- (4) מטילים מטבע 120 פעמים. מה ניתן להגיד על הסיכוי שהתוצאה עץ תתקבל בין 50 ל-70 פעמים לפי אי-שוויון צ'בישב?
- (5) מתוך קו יצור של רכיבים שאורכם הממוצע הנו 10 ס"מ ושונוותם 3 סמ"ר יש לקחת מדגם. מהו גודל המדגם שיבטיח שבהסתברות של 0.9 לפחות ימצא ממוצע המדגם בין 9 ל-11 ס"מ?
- (6) אחוז התומכים במפלגה מסוימת הנו 40%. נלקח מדגם מקרי בגודל 200. תנו חסם תחתון לכך שאחוז התומכים במדגם יהיה בין 35% ל-45%.
- (7) בוחרים קוד  $n$  ספרתי באופן מקרי.
- א. עבור  $n = 10$ , העריכו את ההסתברות שממוצע הספרות במספר יסטה מתוחלתו בלפחות 1.
- ב. מה אורך הקוד המינימלי ( $n$ ) שיבטיח שבהסתברות של לפחות 95%, ממוצע הספרות יסטה מתוחלתו בפחות מ-0.75?

(8) בעיר מסוימת ל-5% מהמשפחות אין מכונית, ל-20% יש מכונית אחת, ל-35% יש שתי מכוניות, ל-30% שלוש מכוניות וליתר ארבע מכוניות. נניח שמספר המשפחות בעיר גדול מאד. העריכו את ההסתברות שמספר המכוניות הכולל בעשר משפחות אקראיות יהיה לפחות 17 ולכל היותר ל-27.

(9) הם משתנים מקיים המתפלגים גיאומטרית עם פרמטר  $p$  באופן

$$P\left(\frac{\sum_{i=1}^n X_i}{n} \geq \frac{2}{p}\right) \leq \frac{1-p}{n} : 0 < p < 1. \text{ הוכיחו שמתקיים:}$$

(10) הם משתנים מקיים המתפלגים פואסונית עם פרמטר  $\lambda_i = i$ ,

$$T = \sum_{i=1}^n X_i : \text{ באופן בלתי תלוי זה בזה. נסמן את:}$$

$$P(|2T - n(n+1)| < 2n) \geq \frac{n-1}{2n} : \text{ הוכיחו שמתקיים:}$$

### תשובות סופיות:

- (1) א. בין  $\frac{3}{4}$  ל-1.      ב. בין 0 ל- $\frac{1}{9}$ .
- (2) לא יתכן.
- (3) 0.75
- (4) לפחות 0.7
- (5) לפחות 30
- (6) 0.52
- (7) א. לכל היותר 0.825.      ב. 294.
- (8) 0.7056
- (9) שאלת הוכחה.
- (10) שאלת הוכחה.

# מבוא להסתברות

פרק 42 - קומבינציות לינאריות על התפלגות נורמלית

תוכן העניינים

1. כללי ..... 182

## קומבינציות לינאריות על התפלגות נורמלית:

**רקע:**

כל קומבינציה לינארית של משתנים המתפלגים נורמאלית – מתפלגת נורמאלית בעצמה.

**דוגמה (פתרון בהקלטה):**

הגובה של גברים במדינת ישראל מתפלג נורמלית עם תוחלת של 175 ס"מ וסטיית תקן של 10 ס"מ, וגובהן של הנשים במדינה מתפלג נורמלית עם תוחלת של 165 ס"מ וסטיית תקן של 8 ס"מ.  
מה הסיכוי שגבר אקראי במדינה יהיה גבוה מאישה אקראית?

## שאלות:

- (1) המשקל של גברים במדינת ישראל מתפלג נורמלית עם תוחלת של 75 ק"ג וסטיית תקן של 10 ק"ג, והמשקל של נשים במדינה מתפלג נורמלית עם תוחלת של 65 ק"ג וסטיית תקן של 8 ק"ג. מה הסיכוי שאישה אקראית תהיה בעלת משקל גבוה יותר מגבר אקראי?
- (2) ההוצאה השנתית על ביגוד לאדם מתפלגת נורמלית עם תוחלת של 3000 ₪ וסטיית תקן של 1000 ₪. ההוצאה השנתית על בילויים מתפלגת נורמלית עם תוחלת של 4000 ₪ וסטיית תקן של 1500 ₪. מקדם המתאם בין ההוצאה השנתית על ביגוד וההוצאה השנתית על בילויים הינו 0.6.  
 א. מה התוחלת ומהי סטיית התקן של התפלגות ההוצאה השנתית הכוללת על ביגוד ובילוי?  
 ב. מה הסיכוי שההוצאה השנתית הכוללת על ביגוד ובילוי תעלה על 8000 ₪?  
 ג. מהו העשירון העליון של ההוצאה השנתית הכוללת על ביגוד ובילוי?
- (3) צריכת הירקות היומית במסעדה מתפלג נורמלית עם תוחלת של 50 ק"ג וסטיית תקן של 4 ק"ג. נתון שמחיר ק"ג ירק הוא 6 ₪ לקילו.  
 א. מה התוחלת ומהי השונות של העלות היומית של ירקות למסעדה?  
 ב. מה ההסתברות שהעלות היומית על ירקות תהיה נמוכה מ-290 ₪?  
 ג. מהו האחוזון ה-40 של התפלגות העלות היומית של המסעדה על ירקות?
- (4) נפח יין בבקבוק מתפלג נורמלית עם תוחלת של 750 מ"ל וסטיית תקן של 20 מ"ל. אדם קנה מארז של 4 בקבוקי יין.  
 א. מהי התוחלת ומהי סטיית התקן של נפח היין במארז.  
 ב. את היין שבמארז האדם מזג לכלי שקיבולתו 3.1 ליטר. מה ההסתברות שהיין יגלוש מהכלי?
- (5) לדוד משה הייתה חווה. בחווה פרה ועיזה. תנובת החלב של הפרה מתפלג נורמלית עם ממוצע של 20 ליטר ביום וסטיית תקן של 5 ליטר ותנובת החלב של העיזה מתפלג גם כן נורמלית עם ממוצע של 10 ליטר וסטיית תקן של 2 ליטר. כל ליטר חלב פרה נמכר ב-2 ₪ וליטר חלב עיזה נמכר ב-3 ₪.  
 א. מה הסיכוי שהפדיון היומי של דוד משה מחלב יהיה לפחות 62 ₪?  
 ב. מה הסיכוי שמתוך 5 ימים יהיו לפחות 4 ימים בהם תנובת החלב מהפרה והעיזה ביחד תהיה מתחת ל-30 ליטר?  
 מה הסיכוי שביום מסוים תנובת הפרה תהיה נמוכה מתנובת העיזה?

### תשובות סופיות:

- (1) 0.2177
- (2) א. תוחלת: 7000, סטיית תקן: 2247      ב. 0.3264      ג. 0.9881
- (3) א. תוחלת: 300, שונות: 576      ב. 0.3372      ג. 0.294
- (4) א. תוחלת: 3000 מ"ל, סטיית תקן: 40 מ"ל.      ב. 0.0062
- (5) א. 0.7549      ב. 0.1875      ג. 0.0314

# מבוא להסתברות

פרק 43 - נוסחת התוחלת השלמה

תוכן העניינים

185 ..... 1. כללי

## נוסחת התוחלת השלמה:

רקע:

כאשר התפלגות של משתנה  $X$  תלויה במשתנה אחר  $Y$ , מתקיים:  $E(X) = E[E(X/Y)]$ .

עבור משתנה  $Y$  בדיד כלשהו:  $E(X) = \sum_y E(X|Y=y) \cdot P(Y=y)$ .

עבור משתנה  $Y$  רציף כלשהו:  $E(X) = \int_{-\infty}^{\infty} E(X|Y=y) \cdot f(y) dy$ .

**דוגמה (הפתרון בהקלטה):**

מרצה מלמד שתי כיתות. הוא מעוניין לבדוק 5 מחברות בחינה.

בכיתה מספר 1: 10 בנים ו-20 בנות.

בכיתה מספר 2: 15 בנים ו-15 בנות.

המרצה בוחר כיתה באופן מקרי וממנה בוחר 5 מחברות בחינה באקראי.

יהי  $X$  מספר מחברות הבחינה של בנים שנבחרו.

יש לחשב את  $E(X)$ .

## שאלות:

(1) בכד 2 כדורים ירוקים, 4 כדורים כחולים ו-4 אדומים. שולפים כדור באקראי. אם הכדור ירוק מטיילים קובייה עד אשר מתקבלת התוצאה 1. אם הכדור כחול מטיילים קובייה עד אשר מתקבלת התוצאה 5. אם הכדור אדום מטיילים קובייה עד אשר מתקבלת תוצאה זוגית. חשבו את תוחלת מספר הפעמים שהקובייה הוטלה.

(2) מטיילים  $n$  מטבעות ומוציאים מהמשחק את כל המטבעות שהראו ראש. כעת מטיילים את כל המטבעות שנותרו. בטאו באמצעות  $n$  את תוחלת מספר הראשים שהתקבלו בסבב השני של ההטלות.

(3) בהגרלה מבצעים את התהליך הבא: בסיכוי 0.25 מגרילים מספר ממכונה A בסיכוי 0.75 מגרילים מספר ממכונה B. במכונה A המספר המוגרל מתפלג פואסונית עם תוחלת 6. במכונה B המספר המוגרל מתפלג פואסונית עם תוחלת 2. אם הוגרל המספר 0 זוכים ב-15 ₪. אחרת זוכים ב-50 ₪. חשבו את תוחלת סכום הזכיה.

(4) נתון ש- $Y/X \sim U(0, X)$ , כאשר פונקציית הצפיפות של  $X$

$$f(x) = \begin{cases} 0.1 & 2 \leq x \leq 6 \\ 0.2 & 6 < x \leq 9 \\ 0 & \text{אחרת} \end{cases} \quad \text{הינה:}$$

חשבו את  $E(Y)$ .

(5) בתכנית הריאליטי "המרוץ למיליון" מגיעים לנקודה שבה שלוש אפשרויות בפני המתמודדים: נקודה A - שבה חוזרים אחרי 1 שעות לנקודת המוצא. נקודה B - שבה חוזרים אחרי 2 שעות לנקודת המוצא ונקודה C - המובילה תוך 2 שעות לנקודת הסיום. המתמודדים בוחרים בכל פעם את הנקודה באופן מקרי. נסמן ב- $X$  את זמן ההגעה לנקודת הסיום. חשבו את  $E(Y)$ .

**תשובות סופיות:**

(1) 4.4

(2)  $\frac{n}{4}$ 

(3) 46.4

(4) 3.05

(5) .5

# מבוא להסתברות

פרק 44 - נוסחת השונות השלמה ( שונות של משתנה מותנה )

תוכן העניינים

1. נוסחת השונות השלמה ( שונות של משתנה מותנה) ..... 188

## נוסחת השונות השלמה (המותנית):

**רקע:**

כאשר התפלגות של משתנה  $X$  תלויה במשתנה אחר  $Y$ , מתקיים:  $E(X) = E[E(X|Y)]$ .

כמו כן, מתקיים לגבי השונות:  $\text{Var}(X) = \text{Var}(E[X|Y]) + E[\text{Var}(X|Y)]$ .

**דוגמה (הפתרון בהקלטה):**

מרצה מלמד שתי כיתות. הוא מעוניין לבדוק 5 מחברות בחינה.

בכיתה מספר 1: 10 בנים ו-20 בנות.

בכיתה מספר 2: 15 בנים ו-15 בנות.

המרצה בוחר כיתה באופן מקרי וממנה בוחר 5 מחברות בחינה באקראי.

יהי  $X$  מספר מחברות הבחינה של בנים שנבחרו.

יש לחשב את  $V(X)$ .

## שאלות:

- (1) בכד 2 כדורים ירוקים, 4 כדורים כחולים ו-4 אדומים. שולפים כדור באקראי. אם הכדור ירוק מטיילים קובייה עד אשר מתקבלת התוצאה 1. אם הכדור כחול מטיילים קובייה עד אשר מתקבלת התוצאה 5. אם הכדור אדום מטיילים קובייה עד אשר מתקבלת תוצאה זוגית. חשבו את התוחלת והשונות של מספר הפעמים שהקובייה הוטלה.

- (2) נטיל קובייה:  $Y+4$  פעמים. נתון ש- $Y \sim P(4)$ . נגדיר את  $X$  כמספר הפעמים שהתקבלה התוצאה 2.  
 א. מצאו את התוחלת של  $X$ .  
 ב. מצאו את השונות של  $X$ .

- (3) נתון ש- $Y|X \sim U(0, X)$ , כאשר פונקציית הצפיפות של  $X$

$$f(x) = \begin{cases} 0.1 & 2 \leq x \leq 6 \\ 0.2 & 6 < x \leq 9 \\ 0 & \text{אחרת} \end{cases} \quad \text{הינה:}$$

חשבו את  $V(Y)$ .

## תשובות סופיות:

- (1) תוחלת: 4.4, שונות: 22.64.  
 (2) תוחלת:  $\frac{4}{3}$ , שונות:  $\frac{11}{9}$ .  
 (3) 4.4.

# מבוא להסתברות

פרק 45 - חישוב תוחלת ושונות על ידי פירוק לאינדיקטורים

תוכן העניינים

1. כללי ..... 190

## חישוב תוחלת ושונות על ידי פירוק לאינדיקטורים:

### רקע:

נלמד שיטה לחישוב תוחלת ושונות של משתנה מקרי, על ידי פירוק לסכום של משתני אינדיקטור. אינדיקטור הינו משתנה שפונקציית ההסתברות של נראית כך:

$X$	1	0
$P(X)$	$P$	$1-P$

נגיד ש- $X_i$  הינו משתנה אינדיקטור כאשר:  $i=1,2,\dots,n$  ו- $X = \sum_{i=1}^n X_i$ .

ניעזר בנוסחאות תוחלת ושונות סכום משתנים מקרים כדי לחשב את התוחלת והשונות של  $X$ .

$$E(X) = E\left(\sum_{i=1}^n X_i\right) = \sum_{i=1}^n E(X_i)$$

$$V(X) = V\left(\sum_{i=1}^n X_i\right) = \sum_{i=1}^n V(X_i) + 2 \cdot \sum_{i < j} COV(X_i, X_j)$$

כאשר עבור משתנים אינדיקטורים מתקיים ש:

$$E(X_i) = P(X_i = 1)$$

$$V(X_i) = P(X_i = 1) \cdot P(X_i = 0)$$

$$COV(X_i, X_j) = P(X_i = 1, X_j = 1) - P(X_i = 1)P(X_j = 1)$$

### דוגמא (פתרון בהקלטה):

יוסי החליט להזמין 8 חברים למסיבת יום הולדתו. הוא הכין 8 הזמנות שעליהן רשם את השם של כל אחד מהחברים. ההזמנות הוכנסו למעטפות וחולקו באקראי ל-8 החברים. נסמן ב- $X$  את מספר ההזמנות שהגיעו לחבר הנכון. חשבו את  $E(X)$  ואת  $V(X)$ .

## שאלות:

- (1) יהיו  $X$  ו- $Y$  משתני אינדיקטורים. הוכיחו ש:
- $E(X) = P(X=1)$ .
  - $V(X) = P(X=1) \cdot [1 - P(X=1)]$ .
  - $COV(X, Y) = P(X=1, Y=1) - P(X=1)P(Y=1)$ .
- (2) 400 אנשים נבחרו מכלל האוכלוסייה.
- חשבו את הסיכוי שביום מסוים בשנה יהיה בדיוק אדם אחד מתוך ה-400 שיש לו יום הולדת.
  - נגדיר את  $X_i$  משתנה אינדיקטור המקבל את הערך 1 אם ביום  $i$  בדיוק אדם אחד מתוך ה-400 עם יום הולדת באותו היום. חשבו את התוחלת והשונות של  $X_i$ .
  - חשבו את התוחלת והשונות של מספר הימים בשנה שבהם יש יום הולדת בדיוק לאחד מ-400 האנשים הללו.
- (3) 3 משחקים הוכנסו באקראי ל-5 מגרות. מגירה יכולה להכיל יותר ממשחק אחד. נסמן ב- $W$  את מספר המגרות בהן בדיוק משחק אחד. חשבו את התוחלת והשונות של  $W$  על ידי פירוק לאינדיקטורים.
- (4)  $A, B$  ו- $C$  הם שלושה מאורעות כך ש:  $P(A) = 0.3, P(B) = 0.2, P(C) = 0.1$ .
- נגדיר את  $Y$  להיות מספר המאורעות מתוך השלושה שמתקיימים. חשבו את התוחלת והשונות של  $Y$  כאשר:
- המאורעות בלתי תלויים זה בזה.
  - $C \subset B \subset A$ .
  - $A, B$  ו- $C$  זרים זה לזה.
- (5) נטיל קובייה 10 פעמים. נסמן ב- $W$  את מספר התוצאות השונות שהתקבלו.
- מצאו את  $E(W)$ .
  - מצאו את  $V(W)$ .

- (6) נסדר בשורה 6 כוסות קולה ו-4 כוסות מים. רצף של שתי כוסות נקרא "גינק", אם שתי הכוסות הן ברצף של קולה. נסמן ב- $X$  את מספר הרצפים מסוג "גינק" שיש לשתי כוסות. למשל, הסידור הבא:  
 קולה, מים, מים, קולה, מים, קולה, מים, קולה, קולה, קולה,  $X = 2$ .  
 חשבו את התוחלת והשונות של  $X$ .
- (7) נסדר בשורה  $n$  זוגות גרביים באקראי (בסך הכול  $2n$  גרביים).  
 חשבו את התוחלת והשונות של מספר הזוגות מתוך  $n$  הזוגות שבהם זוג הגרביים אינם עומדים זה לצד זה.
- (8) בקייטנה 100 ילדים. מחלקים לכל ילד 2 ארטיקים מתוך 200 הארטיקים שנרכשו לקייטנה. מתוך 200 הארטיקים שנרכשו 100 בטעם תות ו-100 הם בטעם לימון. נסמן ב- $X$  את מספר הילדים שקיבלו 2 ארטיקים בטעמים שונים. נסמן ב- $Y$  את מספר הילדים שקיבלו שני ארטיקים בטעם לימון.  
 א. חשבו את התוחלת והשונות של  $X$ .  
 ב. בטאו את  $Y$  כפונקציה של  $X$  וחשבו את התוחלת והשונות של  $Y$ .  
 ג. מהי השונות המשותפת של  $X$  ו- $Y$ ?

### תשובות סופיות:

- (1) שאלת הוכחה.
- (2) א. 0.3667. ב. תוחלת: 0.3667, שונות: 0.2322.  
 ג. תוחלת: 133.85, שונות: 88.89.
- (3) תוחלת: 1.92, שונות: 1.1136.
- (4) א. תוחלת: 0.6, שונות: 0.46. ב. תוחלת: 0.6, שונות: 1.04.  
 ג. תוחלת: 0.6, שונות: 0.24.
- (5) א. 5.03. ב. 0.568.
- (6) תוחלת: 3, שונות:  $\frac{2}{3}$ .
- (7) תוחלת:  $n-1$ , שונות:  $1 - \frac{1}{n} + \frac{n-1}{2(2n-1)}$ .
- (8) א. תוחלת: 50.251, שונות: 25.126.  
 ב.  $Y = -0.5X + 50$ . ג. -12.563.

# מבוא להסתברות

פרק 46 - מערכות חשמליות

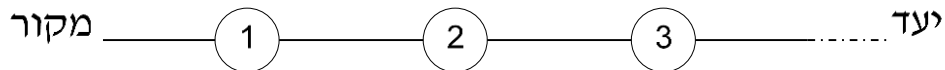
תוכן העניינים

1. כללי ..... 193

## מערכות חשמליות:

### רקע:

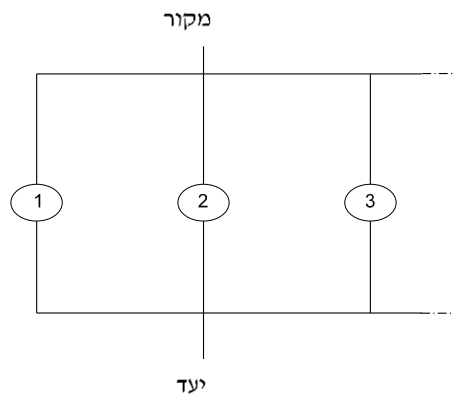
מערכת חשמלית בטור הינה מערכת חשמלית בה הרכיבים מסודרים באופן הבא:



נסמן ב- $A_i$  את המאורע: רכיב  $i$  פועל.

כדי שהמערכת כולה תפעל צריך להתקיים ש:  $\bigcap_{i=1}^n A_i$ .

מערכת חשמלית במקביל הינה מערכת חשמלית בה הרכיבים מסודרים באופן הבא:



כדי שהמערכת החשמלית כולה תפעל צריך להתקיים ש:  $\bigcup_{i=1}^n A_i$ .

### דוגמה (הפתרון בהקלטה):

במערכת חשמלית 4 רכיבים בלתי תלויים שלכל אחד מהם סיכוי  $P$  לפעול. בטאו באמצעות  $P$  את הסיכוי שהמערכת תפעל.

- כל הרכיבים מחוברים בטור זה לזה.
- כל הרכיבים מחוברים במקביל זה לזה.

## שאלות:

(1) נתונים שלושה רכיבים חשמליים המחוברים בטור.

אורך החיים של כל מכשיר מתפלג באופן הבא:

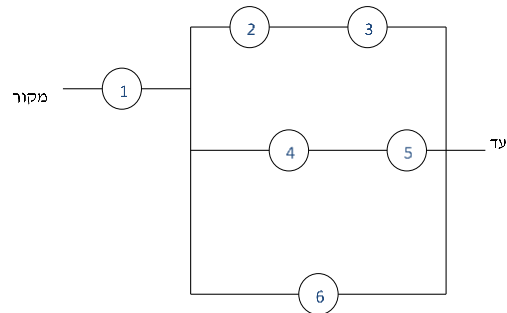
$$X_1 \sim U(2,4)$$

$$X_2 \sim N(3,1)$$

$$X_3 \sim \exp(1)$$

כל רכיב פועל באופן בלתי תלוי זה לזה. כל הרכיבים הופעלו כעת. מה הסיכוי שבעוד 3 שעות המערכת תפעל?

(2) המערכת החשמלית הבאה מכילה 6 רכיבים כמוראה בשרטוט:



כל רכיב פועל באופן בלתי תלוי זה לזה. רכיבים מספר 1, 2, 6 פועלים בסיכוי 0.9. רכיב מספר 3 פועל בסיכוי 0.8. רכיבים מספר 4, 5 פועלים בסיכוי  $P$ .

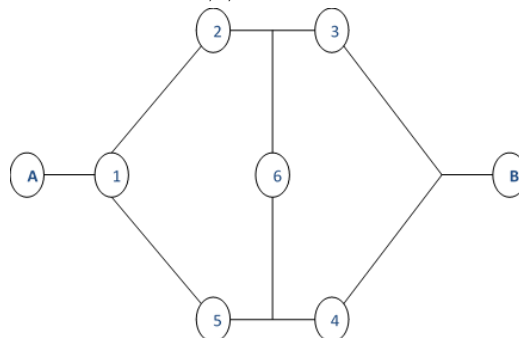
מצאו את  $P$ , אם הסיכוי שהמערכת תפעל הוא 0.887148.

(3) בין שני המחשבים A ו-B נמצאים 6 שרתים כמוראה בשרטוט. כל אחד מהשרתים תקין בסיכוי 0.9. על מנת שהודעה תצליח לעבור ממחשב A ל-B צריך להיות לפחות מסלול אחד שבו כל השרתים תקינים.

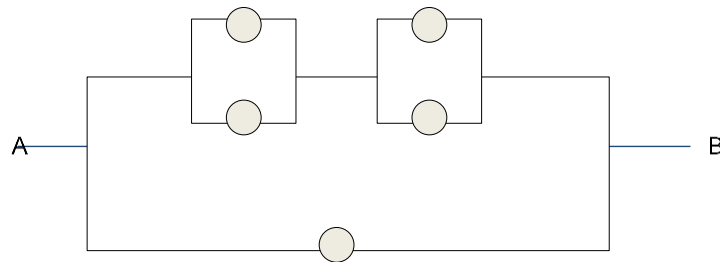
א. מה ההסתברות לכך שההודעה תעבור בהצלחה ממחשב A ל-B?

ב. ההודעה לא הצליחה לעבור ממחשב A למחשב B.

מה הסיכוי ששרת מספר 1 לא תקין?

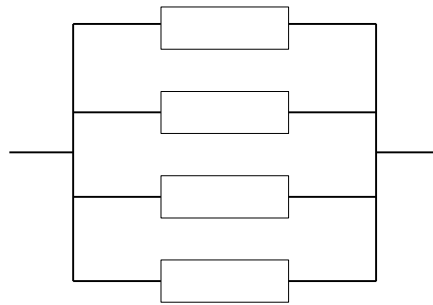


(4) נתונה המערכת החשמלית הבאה :



כל יחידה עובדת באופן בלתי תלוי ובהסתברות  $P$ .  
 כדי שהמערכת תפעל צריך לעבור זרם מהנקודה A לנקודה B.  
 הוכיחו שהסיכוי שהמערכת תפעל הוא:  $P + (1 - P)(2P - P^2)^2$ .

(5) מערכת חשמלית כוללת 4 רכיבים אלקטרוניים זהים הפועלים במקביל כמוראה בשרטוט :



על מנת שהמערכת תפעל בצורה תקינה נדרש שלפחות אחד מהמרכיבים יהיה תקין. אורך החיים של כל רכיב מתפלג מעריכית עם ממוצע של 100 שעות.  
 א. מה ההסתברות שהמערכת תפעל בצורה תקינה במשך 100 שעות לפחות?  
 ב. נרצה להוסיף במקביל עוד רכיב למערכת. עלות הוספת רכיב היא  $K$  ₪. כמו כן אם המערכת עבדה פחות מ-100 שעות נגרם הפסד של  $A$  ₪. מה התנאי שבו יהיה כדאי להוסיף את הרכיב למערכת?

### תשובות סופיות:

(1) 0.1245

(2) 0.7

(3) א. 0.880632 ב. 0.837745

(4) שאלת הוכחה.

(5) א. 0.8403 ב.  $0.0588A > K$

# מבוא להסתברות

פרק 47 - התפלגות מינימום ומקסימום

תוכן העניינים

1. כללי ..... 196

## התפלגות מינימום ומקסימום:

**רקע:**

**התפלגות מקסימום:**

נניח ש- $X_i$  הינם משתנים מקריים בלתי תלויים בעלי אותה התפלגות רציפה.

נגדיר את:  $U = \max(x_1, x_2, \dots, x_n)$  . מתקיים ש:  $F_U(t) = (F_X(t))^n$  ,

ולכן:  $f(u) = n \cdot (F_X(u))^{n-1} \cdot f_X(u)$  .

**התפלגות מינימום:**

נניח ש- $X_i$  הינם משתנים מקריים בלתי תלויים בעלי אותה התפלגות רציפה.

נגדיר את:  $Z = \min(X_1, X_2, \dots, X_n)$  . מתקיים ש:  $F_Z(t) = 1 - (1 - F_X(t))^n$  ,

ולכן:  $f(z) = n \cdot [1 - F_X(z)]^{n-1} \cdot f_X(z)$  .

**דוגמה (הפתרון בהקלטה):**

$$X_i \sim \exp(\lambda)$$

הוכיחו כי:  $\min(x_i) \sim \exp(n\lambda)$  ,  $i = 1, 2, \dots, n$  .

**שאלות:**

1) ענו על הסעיפים הבאים :

- א. הוכיחו שאם  $X_i$  מתפלג רציף עבור כל:  $i = 1, 2, \dots, n$  באופן בלתי תלוי עם פונקציית צפיפות  $f(x)$  ו-  $Z = \min(X_1, X_2, \dots, X_n)$ , מתקיים ש:  $f(z) = n[1 - F_x(z)]^{n-1} \cdot f_x(z)$ .
- ב. הוכיחו שאם  $X_i$  מתפלג רציף עבור כל:  $i = 1, 2, \dots, n$  באופן בלתי תלוי עם פונקציית צפיפות  $f(x)$  ו-  $U = \max(x_1, x_2, \dots, x_n)$ , מתקיים ש:  $f(u) = n \cdot (F_x(u))^{n-1} \cdot f_x(u)$ .

2) אורך חיי רכיב מתפלג מעריכית עם תוחלת של 30 יום.

- א. מכשיר בנוי מ-3 רכיבים בלתי תלויים המחוברים במקביל. בנו את פונקציית ההתפלגות המצטברת של אורך חיי מכשיר.  
 ב. חזרו על סעיף א' אם הרכיבים מחוברים בטור.  
 ג. מה התוחלת והשונות של אורך חיי המכשיר המתואר בסעיף ב'?

3) בכיתה 30 תלמידים, כל תלמיד נרדם תוך זמן המתפלג אקספוננציאלית עם קצב של 8 הירדמויות בשעה. המורה צועק אחרי שנרדם התלמיד הראשון ועוזב את הכיתה שנרדם התלמיד האחרון.

- א. מה הסיכוי שיצעק אחרי פחות מדקה?  
 ב. מה הסיכוי שיצא מהכיתה אחרי פחות מדקה?

4) 3 אנשים משתתפים בתחרות ריצה ל-100 מטרים. כל אחד מהם רץ את המרחק בזמן שהוא משתנה מקרי בעל התפלגות אחידה בתחום בין 10 ל-12 שניות.

- א. מה הסיכוי שהמנצח סיים את הריצה בזמן הגבוה מ-10.5 שניות?  
 ב. מה הסיכוי שהמפסיד סיים את הריצה בזמן הנמוך מ-11.2 שניות?  
 ג. מהי התפלגות זמן הריצה של המפסיד בתחרות? מצאו את התוחלת והשונות שלו?

5)  $X_1, X_2$  מתפלגים נורמאלית סטנדרטית.

- נגדיר את:  $Z = \min(X_1, X_2)$  ואת:  $Y = \max(X_1, X_2)$ .
- א. חשבו  $P(Z > 1)$ .  
 ב. חשבו  $P(Y > 1)$ .  
 ג. חשבו  $P(Y > 1 / Y > 0)$ .

6) רונית נכנסת למכון יופי. היא מבצעת טיפול פדיקור ומניקור בו זמנית. משך זמן הפדיקור מתפלג מעריכית עם תוחלת של 20 דקות ומשך זמן המניקור מתפלג מעריכית עם תוחלת של 15 דקות. נניח שאין תלות במשך זמן הטיפול של המניקור והפדיקור.

- א. מצאו את ההסתברות שמשך זמן הטיפול לא יעלה על שעה.  
 ב. ידוע שמשך זמן טיפול הפדיקור עלה על 10 דקות. מה ההסתברות שמשך זמן בטיפול במכון היופי לא יעלה על 20 דקות?

7) נתון ש:  $X \sim \exp(\lambda)$  ו-  $Y \sim \exp(\mu)$ .  $U = \min(x, y)$  כמו  $x, y$  בלתי תלויים. הוכיחו כי:  $U \sim \exp(\mu + \lambda)$ .

8)  $X_1$  ו-  $X_2$  שני משתנים מקריים רציפים בלתי תלויים המתפלגים אחיד בין 0 ל-1. נגדיר:  $Y = \max(x_1, x_2)$ . חשבו את:  $P(Y > 0.5)$ .

9) נתון ש-  $X_i \sim U(0, 2)$  בלתי תלויים זה בזה כאשר:  $i = 1, 2, \dots, 5$ . מצאו את פונקציית הצפיפות של:  $T = \max(X_i)$ .

10) נתון משתנה מקרי  $X$  בעל פונקציית הצפיפות הבאה:

$$f(x) = \begin{cases} 3x^2 & 0 \leq x \leq 1 \\ 0 & \text{תא } \pi \end{cases}$$

נגדיר את:  $W = \max(X_i)$  כאשר:  $i = 1, 2, \dots, 10$ . חשבו את  $E(W)$ .

### תשובות סופיות:

(1) הוכחה.

$$(2) \text{ א. } F_u(t) = \left(1 - e^{-\frac{1}{30}t}\right)^3 \text{ ב. } Z \sim \exp\left(\lambda = \frac{1}{10}\right)$$

ג. תוחלת: 10, שונות: 100.

(3) א. 0.9817 ב. 0.

(4) א. 0.421875 ב. 0.216 ג. תוחלת: 11.5, שונות: 0.15.

(5) א. 0.02518 ב. 0.2922 ג. 0.3896.

(6) א. 0.9328 ב. 0.2898.

(7) הוכחה.

(8) 0.75

$$(9) \frac{5}{2} \cdot \left(\frac{t}{2}\right)^4$$

$$(10) \frac{30}{31}$$

# מבוא להסתברות

פרק 48 - המשתנה המקרי הדו ממדי הרציף

תוכן העניינים

1. משתנה דו ממדי רציף.....200

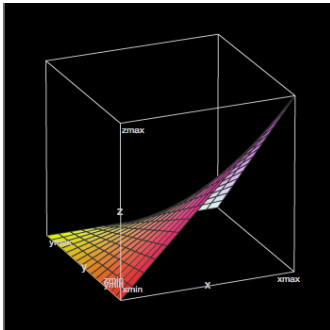
## משתנה מקרי דו ממדי רציף:

### רקע:

יהיו  $X$  ו- $Y$  משתנים מקריים רציפים המוגדרים בתחום  $R$  מסוים. פונקציית הצפיפות המשותפת שלהם תסומן על ידי  $f(x, y)$ . פונקציית צפיפות משותפת צריכה לקיים את שני התנאים הבאים:

$$(1) \quad f(x, y) \geq 0 \quad \text{לכל } (x, y) \in R$$

$$(2) \quad \iint_R f(x, y) dx dy = 1$$



### דוגמה (פתרון בהקלטה):

$$f(x, y) = \begin{cases} 4x(1-y) & 0 \leq x, y \leq 1 \\ 0 & \text{else} \end{cases} : \text{נתונה הפונקציה}$$

הראו שפונקציה זו יכולה להיות פונקציית צפיפות משותפת.

### פונקציית צפיפות שולית:

$$f(x) = \int_{-\infty}^{\infty} f(x, y) dy : \text{פונקציית הצפיפות השולית של } X \text{ תתקבל באופן הבא}$$

$$f(y) = \int_{-\infty}^{\infty} f(x, y) dx : \text{פונקציית הצפיפות השולית של } Y \text{ תתקבל באופן הבא}$$

### דוגמה (פתרון בהקלטה):

$$f(x, y) = \begin{cases} 4x(1-y) & 0 \leq x, y \leq 1 \\ 0 & \text{else} \end{cases} : \text{מצאו לפונקציית הצפיפות}$$

את פונקציית הצפיפות השולית של  $X$ , וחשבו את  $E(X)$  דרכה.

### אי-תלות בין משתנים רציפים:

$X$  ו- $Y$  יהיו משתנים מקרים בלתי תלויים, אם עבור כל  $X$  ו- $Y$  בתחום ההגדרה  $R$  מתקיים ש:

$$f(x, y) = f(x) \cdot f(y)$$

**דוגמה (פתרון בהקלטה):**

האם  $X$  ו- $Y$ , המתפלגים לפי פונקציית הצפיפות המשותפת:

$$f(x, y) = \begin{cases} 4x(1-y) & 0 \leq x, y \leq 1 \\ 0 & \text{else} \end{cases}$$

הם משתנים בלתי תלויים?

**חישוב הסתברויות עבור משתנה מקרי רציף דו ממדי:**

הנפח הכלוא מתחת למשטח  $f(x, y)$  בתחום מסוים ייתן את ההסתברות ש- $X$

$$\text{ו-} Y \text{ יהיו בתחום הזה: } P[(x, y) \in A] = \iint_A f(x, y) dx dy$$

**דוגמה (פתרון בהקלטה):**

$$f(x, y) = \begin{cases} 4x(1-y) & 0 \leq x, y \leq 1 \\ 0 & \text{else} \end{cases} \text{ : משתנים מתפלגים לפי פונקציית הצפיפות:}$$

חשבו את הסיכוי:  $P(X < 0.5 \cap Y < 0.5)$ .

**פונקציית התפלגות מצטברת משותפת:**

פונקציית התפלגות מצטברת משותפת הינה פונקציה של שני משתנים רציפים המחזירה את הסיכוי שהמשתנים יהיו קטנים מערכים מסוימים:

$$F(s, t) = P(X \leq s \cap Y \leq t) = \int_{-\infty}^t \int_{-\infty}^s f(x, y) dx dy$$

**דוגמה (פתרון בהקלטה):**

$$f(x, y) = \begin{cases} 4x(1-y) & 0 \leq x, y \leq 1 \\ 0 & \text{else} \end{cases} \text{ : משתנים מתפלגים לפי פונקציית הצפיפות:}$$

מצאו את פונקציית ההתפלגות המצטברת המשותפת

ועל פיה חשבו את הסיכוי:  $P(X < 0.5 \cap Y < 0.5)$ .

**פונקציית צפיפות מותנית:**

אם ל- $X$  ול- $Y$  ישנה פונקציית צפיפות משותפת  $f(x, y)$ , אז מגדירים את פונקציית הצפיפות המותנית של  $X$ , בהינתן ש- $Y = y$  לכל ערכי  $y$

$$. f(x|y) = \frac{f(x, y)}{f(y)} \quad \text{על ידי } f(y) > 0$$

באופן דומה, פונקציית הצפיפות המותנית של  $Y$  בהינתן ש- $X = x$  לכל ערכי  $x$

$$. f(y|x) = \frac{f(x, y)}{f(x)} \quad \text{על ידי } f(x) > 0$$

**דוגמה (פתרון בהקלטה):**

$$. f(x, y) = \begin{cases} 4x(1-y) & 0 \leq x, y \leq 1 \\ 0 & \text{else} \end{cases} \quad \text{משתנים מתפלגים לפי פונקציית הצפיפות:}$$

$$. f(x|y)$$

**תוחלת מותנית:**

ל- $X$  ול- $Y$  ישנה פונקציית צפיפות משותפת  $f(x, y)$ .

$$. E(X|Y=y) = \int_{-\infty}^{\infty} x \cdot f(x|y) dx \quad \text{בהינתן ש- } Y = y \text{ תהיה:}$$

ובאופן דומה, התוחלת של  $Y$  בהינתן ש- $X = x$  תהיה:

$$. E(Y|X=x) = \int_{-\infty}^{\infty} y \cdot f(y|x) dy$$

**דוגמה (פתרון בהקלטה):**

$$. f(x, y) = \begin{cases} 4x(1-y) & 0 \leq x, y \leq 1 \\ 0 & \text{else} \end{cases} \quad \text{משתנים מתפלגים לפי פונקציית הצפיפות:}$$

$$. E(X|Y)$$

## שאלות:

- (1) נתונה פונקציית הצפיפות הבאה:  $f(x, y) = x + y$ , המוגדרת בתחום שבו:  $0 \leq x \leq 1$  וגם:  $0 \leq y \leq 1$ . הוכיחו שמדובר בפונקציית צפיפות.
- (2) נתונה פונקציית הצפיפות הבאה:  $f(x, y) = Ax(x - y)$ , המוגדרת בתחום שבו:  $0 \leq x \leq 2$  וגם:  $-x \leq y \leq x$ . מצאו את ערכו של הפרמטר  $A$ .
- (3) נתונה פונקציית הצפיפות הבאה:  $f(x, y) = \frac{(x \cdot y)^3 + x \cdot y}{C}$ , המוגדרת בתחום שבו:  $0 \leq x \leq 1$  וגם:  $0 \leq y \leq 1$ .  
 א. מצאו את ערכו של  $C$ .  
 ב. מצאו את  $f(y)$ .  
 ג. האם  $X$  ו- $Y$  הינם משתנים בלתי תלויים?
- (4) משתנה מקרי דו ממדי מתפלג לפי פונקציית הצפיפות הבאה:  $f(x, y) = \frac{1}{800}$ , המוגדרת בתחום שבו:  $60 \leq x \leq y$  וגם:  $60 \leq y \leq 100$ .  
 א. הראו שפונקציה זו מקיימת את התנאים של פונקציית צפיפות.  
 ב. מצאו את פונקציית הצפיפות השולית של  $Y$ .  
 ג. חשבו את  $E(X)$ ,  $V(X)$ .  
 ד. האם  $X$  ו- $Y$  הם משתנים בלתי תלויים?  
 ה. חשבו את מקדם המתאם בין  $X$  ל- $Y$ .  
 ו. חשבו את הסיכוי:  $P(Y > X + 10)$ .
- (5) משתנה מקרי דו ממדי מתפלג לפי פונקציית הצפיפות הבאה:  
 $f(x, y) = \lambda\mu \cdot e^{-(\lambda x + \mu y)}$ , המוגדרת בתחום שבו:  $x, y > 0$ .  
 א. מצאו את פונקציית הצפיפות של  $X$  ואת פונקציית הצפיפות של  $Y$ .  
 ב. האם  $X$  ו- $Y$  הם משתנים תלויים?  
 ג. מהו מקדם המתאם בין  $X$  ל- $Y$ ?  
 ד. חשבו את הסיכוי:  $P(Y > X)$ .

(6)  $Y$  הינו משתנה מקרי אחיד רציף המתפלג בקטע:  $[2, 4]$ .

בנוסף, נתון ש- $X$  הינו משתנה מקרי רציף המקיים:  $0 \leq x \leq y$ ,  $f(x|y) = \frac{2x}{y^2}$ .  
מצאו את השונות המשותפת של  $X$  ו- $Y$ .

(7) נתונים שני משתנים מקרים רציפים  $X$  ו- $Y$ . פונקציות הצפיפות

המשותפות שלהם היא:  $f(x, y) = \begin{cases} x & 0 < y < 1 \\ 0 & 1 - y \leq x \leq 1 + y \\ 0 & \text{else} \end{cases}$

א. מצאו את  $f(x)$ .

ב. מצאו את  $f(y|x)$ .

ג. מצאו את  $E(Y|X)$ .

(8) יהיו  $X$  ו- $Y$  משתנים רציפים המתפלגים אחיד בתוך משולש

שקדקודיו:  $(-1, 2)$ ,  $(-1, 0)$ ,  $(0, 1)$ .

א. רשמו את פונקציית הצפיפות המשותפת.

ב. מצאו את פונקציית הצפיפות השולית של  $X$  ו- $Y$ .

ג. חשבו את התוחלת של  $X$  ו- $Y$ .

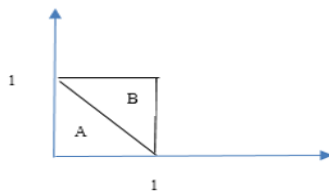
ד. האם  $X$  ו- $Y$  משתנים בלתי מתואמים?

ה. האם  $X$  ו- $Y$  משתנים בלתי תלויים?

(9) פונקציית צפיפות משותפת מקבלת ערך אחיד באופן הבא:

הצפיפות על פני משולש  $A$  הינה 1.5 והצפיפות על פני משולש  $B$  היא 0.5.

האם פונקציית הצפיפות המשותפת היא לגיטימית?



א. מצאו את  $f(x)$ .

ב. מצאו את  $f(x|y)$ .

(10) נתונה פונקציית הצפיפות המשותפת:  $f(x, y) = cx$ . פונקציה זו מוגדרת

בתחום שבו:  $0 \leq x \leq 1$  וכן:  $0 \leq y \leq x^2$ .

א. מצאו את הקבוע  $C$ .

ב. חשבו את ההסתברות ש- $6Y < 1 - X$ .

**(11)** נתונים  $X$  ו- $Y$  שני משתנים מקריים רציפים כך ש:  $Y \sim U(0,1)$

ו- $X|Y=y \sim U(0, \sqrt{y})$ . חשבו את:  $E(Y|X=0.5)$ .

**(12)** נתונה פונקציית הצפיפות:  $f(x, y) = 2e^{-x} \cdot e^{-2y}$  בתחום שבו:  $x, y \geq 0$ .

חשבו את הסיכוי:  $P(X < Y)$ .

**(13)** נתונה פונקציית הצפיפות המשותפת:  $f(x, y) = \frac{e^{-y} \cdot e^{-\frac{x}{y}}}{y}$ , המוגדרת לרביע

הראשון. חשבו את:  $P(X > 1|Y = 2)$ .

**(14)** יוסי וערן עובדים באותו המשרד. הם מגיעים לעבודה בכל יום בין 8:00 ל-9:00.

נניח שזמן ההגעה של כל אחד מתפלג אחיד ובאופן בלתי תלוי זה בזה.

מה הסיכוי שיוסי יצטרך לחכות לערן יותר מ-10 דקות?

**(15)** נתונים שני משתנים מקרים רציפים:  $X \sim N(Y, 1)$  ו- $Y \sim U(0, 2)$ .

א. מצאו את פונקציית הצפיפות המשותפת של  $X$  ו- $Y$ .

ב. מצאו את  $E(X^2|Y)$ .

ג. מצאו את  $E(X)$ .

**(16)** פונקציית הצפיפות המשותפת של  $X$  ו- $Y$  היא:  $f(x, y) = 1$ .

פונקציה זו מוגדרת בתחומי:  $0 \leq x, y \leq 1$ .

הוכיחו ש:  $E(|X - Y|^n) = \frac{2}{(n+1)(n+2)}$ .

**(17)**  $X \sim \exp(1)$  וכן:  $Y \sim \exp(1)$ , הינם משתנים מקרים בלתי תלויים.

נגדיר את:  $Z = \frac{X}{X+Y}$ .

הוכיחו:  $Z \sim U(0, 1)$ .

## תשובות סופיות:

(1) שאלת הוכחה.

(2)  $A = \frac{1}{8}$ .

(3) א.  $\frac{5}{16}$  ב.  $f(y) = 0.8y^3 + 1.6y$  ג. תלויים.

(4) א. שאלת הוכחה. ב.  $f(y) = \frac{y-60}{800}$  ג.  $E(X) = 73\frac{1}{3}$ ,  $V(X) = 88\frac{8}{9}$ .

ד. לא. ה. 0.5 ו. 0.5625

(5) א.  $f(y) = \mu e^{-\mu y}$ ,  $f(x) = \lambda e^{-\lambda x}$  ב. לא.

ג. 0. ד.  $\frac{\lambda}{\lambda + \mu}$ .

(6)  $\frac{2}{9}$ .

(7) א.  $f(x) = \begin{cases} x^2 & 0 \leq x < 1 \\ 2x - x^2 & 1 \leq x \leq 2 \\ 0 & \text{else} \end{cases}$

$$E(y|x) = \begin{cases} 1 - \frac{x}{2} & 0 \leq x < 1 \\ \frac{x}{2} & 1 \leq x \leq 2 \\ 0 & \text{else} \end{cases} \quad \text{ג.}$$

$$f(y|x) = \begin{cases} \frac{1}{x} & 0 \leq x < 1 \quad 1 - x < y < 1 \\ \frac{1}{2-x} & 1 \leq x \leq 2 \quad x-1 < y < 1 \\ 0 & \text{else} \end{cases} \quad \text{ב.}$$

(8) א.  $f(x, y) = \begin{cases} 1 & 1+x < y < 1-x-1 < x < 0 \\ 0 & \text{else} \end{cases}$

$$f(y) = \begin{cases} y & 0 \leq y < 1 \\ 2-y & 1 \leq y \leq 2 \\ 0 & \text{else} \end{cases}, \quad f(x) = \begin{cases} -2x & -1 < x < 0 \\ 0 & \text{else} \end{cases} \quad \text{ב.}$$

ג.  $E(X) = -\frac{2}{3}$ ,  $E(Y) = 1$  ד. כן.

ה. לא.

$$f(x) = \begin{cases} 1.5-x & 1 < x < 0 \\ 0 & \text{else} \end{cases} \quad \text{ב.} \quad \text{9) א. כן.}$$

$$f(x|y) = \begin{cases} \frac{1.5}{1.5-y} & 0 \leq x < 1-y \\ \frac{0.5}{1.5-y} & 1-y \leq x \leq 1 \\ 0 & \text{else} \end{cases} \quad \text{ג.}$$

$$\text{10) א. 4. ב. 0.0947.}$$

$$\frac{7}{12} \quad \text{11)}$$

$$\frac{1}{3} \quad \text{12)}$$

$$e^{-\frac{1}{2}} \quad \text{13)}$$

$$\frac{25}{72} \quad \text{14)}$$

$$f(x, y) = \begin{cases} \frac{1}{2\sqrt{2\pi}} e^{-\frac{(x-y)^2}{2}} & 0 < y < 2 \\ 0 & \text{else} \end{cases} \quad \text{א. 15)}$$

$$y^2 + 1 \quad \text{ב.}$$

$$\text{ג. 1.}$$

16) שאלת הוכחה.

17) שאלת הוכחה.

# מבוא להסתברות

פרק 49 - קונבולוציה - התפלגות סכום משתנים בלתי תלויים

תוכן העניינים

1. קונבולוציה - התפלגות סכום משתנים בלתי תלויים ..... 208

## קונבולוציה – התפלגות סכום משתנים בלתי תלויים:

**רקע:**

יהיו  $X$  ו- $Y$  שני משתנים מקריים בלתי תלויים ונתעניין בהתפלגות סכומם:  
 $T = X + Y$  - שגם הוא משתנה מקרי.  
 אם מדובר במשתנים מקריים רציפים עם פונקציות צפיפות  $f_X$  ו- $f_Y$ , פונקציית הצפיפות של  $T = X + Y$ , תינתן על ידי נוסחת הקונבולוציה הבאה:

$$f_{X+Y}(t) = \int_{-\infty}^{\infty} f_X(t-y) \cdot f_Y(y) dy$$

**דוגמה (פתרון בהקלטה):**

נתון:  $X \sim \exp(1)$  וכן:  $Y \sim \exp(2)$ . מצאו את פונקציית הצפיפות של:  $T = X + Y$ .

## שאלות:

- (1) נתון ש- $Y, X \sim \exp(\lambda)$ . כמו כן ידוע ש- $X$  ו- $Y$  בלתי תלויים. מצאו את פונקציית הצפיפות של  $X + Y$ .
- (2) נתון ש- $X$  ו- $Y$  משתנים בלתי תלויים המתפלגים נורמלית סטנדרטית. הוכיחו ש- $T = X + Y$  מתפלג נורמלית עם תוחלת 0 ושונות 2.
- (3) סוללה מסוג A בעלת אורך חיים המתפלג אחיד בין 1 ל-3 שעות. כמו כן נתונה סוללה מסוג B בעלת אורח חיים המתפלג מעריכית עם תוחלת חיים של שעה. מכשיר מופעל על ידי סוללה A וברגע שהסוללה מתרוקנת אוטומטית מופעלת סוללה B. נסמן ב- $Z$  את הזמן הכולל של פעילות המכשיר. א. מצאו את פונקציית הצפיפות של  $Z$ . ב. מה הסיכוי שהמכשיר יפעל פחות מ-4 שעות?
- (4)  $X$  ו- $Y$  משתנים מקריים רציפים ובלתי תלויים בעלי פונקציות הצפיפות הבאות:  $f_x(x) = \frac{1}{4}$   $-2 \leq x \leq 2$ ,  $f_y(y) = \begin{cases} y+1 & -1 \leq y \leq 0 \\ 1-y & 0 \leq y \leq 1 \\ 0 & \text{else} \end{cases}$ . מצאו את פונקציית הצפיפות של  $X + Y$ .
- (5) יהיו  $X$  ו- $Y$  משתנים מקריים רציפים ובלתי תלויים בעלי התפלגות אחידה:  $X \sim U(2,3)$   $Y \sim U(1,5)$ . א. מהי ההתפלגות של סכום המשתנים הללו? ב. מה הרבעון העליון של סכום המשתנים?
- (6) יהיו  $X, Y$  ו- $Z$  מתפלגים אחיד רציף באופן בלתי תלוי בין 0 ל-1. מצאו את פונקציית הצפיפות של:  $X + Y + Z$ .
- (7) הוכיחו את נוסחת הקונבולוציה עבור המקרה הרציף. (רמז: היעזרו בפונקציית הצפיפות המשותפת ובהגדרה של משתנים מקריים רציפים בלתי תלויים).

## תשובות סופיות:

$$f_T(t) = \lambda^2 \cdot e^{-\lambda t} \cdot t \quad t \geq 0 \quad (1)$$

(2) שאלת הוכחה.

$$f_z(z) = \begin{cases} \frac{1}{2}(1 - e^{1-z}) & 1 \leq z \leq 3 \\ \frac{1}{2}(e^{3-z} - e^{1-z}) & z > 3 \\ 0 & \text{else} \end{cases} \quad \text{א. ב. 0.841} \quad (3)$$

$$f_T(t) = \begin{cases} \frac{1}{8}(t+3)^2 & -3 \leq t \leq -2 \\ \frac{1}{8}(2 - (t+1)^2) & -2 < t < -1 \\ \frac{1}{4} & -1 \leq t \leq 1 \\ \frac{1}{8}(2 - (t-1)^2) & 1 < t < 2 \\ \frac{1}{8}(t-3)^2 & 2 \leq t \leq 3 \\ 0 & \text{else} \end{cases} \quad (4)$$

$$f_T(t) = \begin{cases} \frac{t-3}{4} & 3 \leq t \leq 4 \\ \frac{1}{4} & 4 < t < 7 \\ \frac{8-t}{4} & 7 \leq t \leq 8 \end{cases} \quad \text{א. ב. 4.5} \quad (5)$$

$$f_w(w) = \begin{cases} \frac{w^2}{2} & 0 \leq w \leq 1 \\ -w^2 + 3w - 1.5 & 1 < w < 2 \\ \frac{(3-w)^2}{2} & 2 \leq w \leq 3 \end{cases} \quad (6)$$

(7) שאלת הוכחה.

# מבוא להסתברות

פרק 50 - התפלגות הדגימה ומשפט הגבול המרכזי

תוכן העניינים

1. התפלגות ממוצע המדגם ומשפט הגבול המרכזי ..... 211
2. התפלגות סכום תצפיות בלתי תלויות ומשפט הגבול המרכזי ..... 219
3. התפלגות מספר ההצלחות במדגם - קירוב נורמלי להתפלגות הבינומית ..... 222
4. התפלגות פרופורציית ההצלחות במדגם ..... 227
5. חוק המספרים הגדולים ..... 231

## התפלגות ממוצע המדגם ומשפט הגבול המרכזי:

### רקע:

בפרק זה נדון בהתפלגות של ממוצע המדגם:  $\bar{x} = \frac{\sum x_i}{n}$

מכיוון שממדגם למדגם אנו יכולים לקבל ממוצע מדגם שונה, אזי ממוצע המדגם הוא משתנה מקרי ויש לו התפלגות.

גדלים המתארים התפלגות כלשהי או אוכלוסייה כלשהי נקראים פרמטרים.

להלן רשימה של פרמטרים החשובים לפרק זה:

ממוצע האוכלוסייה נסמן ב- $\mu$  (נקרא גם תוחלת).

שונות אוכלוסייה נסמן ב- $\sigma^2$ .

סטיית תקן של אוכלוסייה:  $\sigma$ .

### תכונות התפלגות:

ממוצע כל ממוצעי המדגם האפשריים שווה לממוצע האוכלוסייה:  $E(\bar{x}) = \mu_x = \mu$ .

שונות כל ממוצעי המדגם האפשריים שווה לשונות האוכלוסייה מחולק ב- $n$ .

תכונה זו נכונה רק במדגם מקרי:  $V(\bar{x}) = \sigma_x^2 = \frac{\sigma^2}{n}$ .

יש יחס הפוך בין גודל המדגם לבין שונות ממוצעי המדגם.

אם נוציא שורש לשונות נקבל סטיית תקן של ממוצע המדגם שנקראת גם

טעות תקן:  $\sigma(\bar{x}) = \sqrt{\frac{\sigma^2}{n}} = \frac{\sigma}{\sqrt{n}}$ .

### דוגמה (פתרון בהקלטה):

השכר הממוצע במשק הינו 9000 ₪ עם סטיית תקן של 4000. דגמו באקראי 25 עובדים.

א. מיהי אוכלוסיית המחקר? מהו המשתנה הנחקר?

ב. מהם הפרמטרים של האוכלוסייה?

ג. מה התוחלת ומהי סטיית התקן של ממוצע המדגם?

**דגימה מהתפלגות נורמאלית:**

אם נדגום מתוך אוכלוסייה שהמשתנה בה מתפלג נורמאלית עם ממוצע  $\mu$  ושוונות  $\sigma^2$ .

$$\bar{x} \sim N\left(\mu, \frac{\sigma^2}{n}\right), \quad Z_{\bar{x}} = \frac{\bar{x} - \mu}{\frac{\sigma}{\sqrt{n}}}$$

ממוצע המדגם גם יתפלג נורמאלית:

**דוגמה (פתרון בהקלטה):**

משקל תינוק ביום היוולדו מתפלג נורמאלית עם ממוצע 3400 גרם וסטיית תקן של 400 גרם. מה ההסתברות שבמדגם של 4 תינוקות אקראיים בעת הולדתם המשקל הממוצע של התינוקות יהיה מתחת ל-3.5 ק"ג?

**משפט הגבול המרכזי:**

אם אוכלוסייה מתפלגת כלשהו עם ממוצע  $\mu$  ושוונות  $\sigma^2$  אזי עבור מדגם מספיק

$$\bar{x} \rightsquigarrow N\left(\mu, \frac{\sigma^2}{n}\right) \quad (n \geq 30)$$

ממוצע המדגם מתפלג בקירוב נורמאלי:

**דוגמה (פתרון בהקלטה):**

משקל חפיסת שוקולד בקו ייצור מתפלג עם ממוצע 100 גרם וסטיית תקן של 4 גרם. דגמו מקו הייצור 36 חפיסות שוקולד אקראיות. מה ההסתברות שהמשקל הממוצע של חפיסות השוקולד שנדגמו יהיה מתחת ל-102 גרם?

## שאלות:

- (1) מתוך כלל הסטודנטים במכללה שסיימו סטטיסטיקה א נדגמו שני סטודנטים. נתון שממוצע הציונים של כלל הסטודנטים היה 78 עם סטיית תקן של 15.
- מיהי האוכלוסייה?
  - מה המשתנה?
  - מהם הפרמטרים?
  - מהו גודל המדגם?
  - מהו תוחלת ממוצע המדגם?
  - מהי טעות התקן?

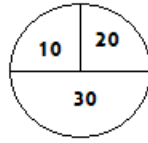
- (2) להלן התפלגות מספר מקלטי הטלויזיה למשפחה בישוב מסוים:

מספר משפחות	מספר מקלטים
500	0
2500	1
3500	2
3000	3
500	4
סך הכול $N = 10000$	

- בנו את פונקציית ההסתברות של  $X$ .
  - חשבו את התוחלת, השונות וסטיית התקן של  $X$ .
  - אם נדגום 4 משפחות מהישוב עם החזרה מה תהיה התוחלת, מהי השונות ומהי סטיית התקן של ממוצע המדגם?
- (3) אם נטיל קובייה פעמיים ונתבונן בממוצע התוצאות שיתקבלו, מה תהיה התוחלת ומה תהיה סטיית התקן של ממוצע זה?
- (4) משקל תינוק ביום היוולדו מתפלג נורמאלית עם ממוצע 3400 גרם וסטיית תקן של 400 גרם.
- מה ההסתברות שתינוק אקראי בעת הלידה ישקול פחות מ-3800 גרם? נתון כי ביום מסוים נולדו 4 תינוקות.
  - מה ההסתברות שהמשקל הממוצע שלהם יעלה על 4 ק"ג?
  - מה ההסתברות שהמשקל הממוצע של התינוקות יהיה מתחת ל-2.5 ק"ג?
  - מה ההסתברות שהמשקל הממוצע של התינוקות יהיה רחוק מהתוחלת בלא יותר מ-50 גרם?
  - הסבירו ללא חישוב כיצד התשובה לסעיף הקודם הייתה משתנה אם היה מדובר על יותר מ-4 תינוקות?

- (5) הגובה של המתגייסים לצה"ל מתפלג נורמאלית עם תוחלת של 175 ס"מ וסטיית תקן של 10 ס"מ. ביום מסוים התגייסו 16 חיילים.
- מה ההסתברות שהגובה הממוצע שלהם יהיה לפחות 190 ס"מ?
  - מה ההסתברות שהגובה הממוצע שלהם יהיה בדיוק 180 ס"מ?
  - מה ההסתברות שהגובה הממוצע שלהם יסטה מתוחלת הגבהים בפחות מ-5 ס"מ?
  - מהו הגובה שבהסתברות של 90% הגובה הממוצע של המדגם יהיה נמוך ממנו?
- (6) הזמן הממוצע שלוקח לאדם להגיע לעבודתו 30 דקות עם שונות של 16 דקות רבועות. האדם נוסע לעבודה במשך שבוע 5 פעמים.
- לצורך הפתרון הניחו שזמן הנסיעה לעבודה מתפלג נורמאלית.
- מה ההסתברות שבמשך שבוע משך הנסיעה הממוצע יהיה מעל 33 דקות?
  - מהו הזמן שבהסתברות של 90% ממוצע משך הנסיעה השבועי יהיה גבוה ממנו?
  - מה ההסתברות שממוצע משך הנסיעה השבועי יהיה מרוחק מ-30 דקות בלפחות 2 דקות?
  - כיצד התשובה לסעיף הקודם הייתה משתנה אם האדם היה נוסע לעבודה 6 פעמים בשבוע?
- (7) נפח היין בבקבוק מתפלג נורמאלית עם תוחלת של 750 סמ"ק וסטיית תקן של 10 סמ"ק.
- בארגו 4 בקבוקי יין. מה ההסתברות שהנפח הממוצע של הבקבוקים בארגו יהיה בדיוק 755 סמ"ק?
  - בארגו 4 בקבוקי יין. מה ההסתברות שהנפח הממוצע של הבקבוקים בארגו יהיה יותר מ-755 סמ"ק?
  - בארגו 4 בקבוקי יין. מה ההסתברות שהנפח הממוצע של הבקבוקים בארגו יהיה לפחות 755 סמ"ק?
  - בקבוקי היין שבארגו נמזגים לקערה עם קיבולת של שלושה ליטר. מה ההסתברות שהיין יגלוש מהקערה?
- (8) משתנה מתפלג נורמאלית עם תוחלת של 80 וסטיית תקן 4.
- מה ההסתברות שממוצע המדגם יסטה מתוחלתו בלא יותר מיחידה כאשר גודל המדגם הוא 9?
  - מה ההסתברות שממוצע המדגם יסטה מתוחלתו בלא יותר מיחידה שגודל המדגם הוא 16?
  - הסבר את ההבדל בתשובות של שני הסעיפים.

9) בקזינו ישנה רולטה. על הרולטה רשומים המס' הבאים כמוראה בשרטוט:



אדם מסובב את הרולטה וזוכה בסכום הרשום על הרולטה.

- א. בנו את פונקציית ההסתברות של סכום הזכייה במשחק בודד.
- ב. מה התוחלת ומה השונות של סכום הזכייה?
- ג. אם האדם ישחק את המשחק 5 פעמים מה התוחלת ומה השונות של ממוצע סכום הזכייה בחמשת המשחקים?
- ד. אם האדם משחק את המשחק 50 פעם מה ההסתברות שבסה"כ יזכה ב-1050 ₪ ומעלה?

10) לפי הערכות הלשכה המרכזית לסטטיסטיקה השכר הממוצע במשק הוא 8000 ₪ עם סטיית תקן של 3000 ₪. מה ההסתברות שבמדגם מקרי של 100 עובדים השכר הממוצע יהיה יותר מ-8500 ₪?

11) קובייה הוטלה 50 פעמים. מה ההסתברות שהממוצע של התוצאות יהיה לפחות 3.72?

- 12) אורך צינור שמפעל מייצר הינו עם ממוצע של 70 ס"מ וסטיית תקן של 10 ס"מ.
- א. נלקחו באקראי 100 מוטות, מה ההסתברות שממוצע אורך המוטות יהיה בין 68 ל 78 ס"מ?
  - ב. יש לחבר 2 בניינים באמצעות מוטות. המרחק בין שני הבניינים הינו 7200 ס"מ. מה ההסתברות ש-100 המוטות יספיקו למלאכה?
  - ג. מה צריך להיות גודל המדגם המינימאלי, כדי שבהסתברות של 5% ממוצע המדגם יהיה קטן מ-69 ס"מ. היעזרו במשפט הגבול המרכזי.

13) נתון משתנה מקרי בדיד בעל פונקציית ההסתברות הבאה:

2	4	6	8	$X$
$\frac{1}{4}$	$\frac{1}{4}$	$\frac{1}{4}$	$\frac{1}{4}$	$P(X)$

מתוך התפלגות זו נלקח מדגם מקרי בגודל 50. מה הסיכוי שממוצע המדגם יהיה קטן מ-5?

14 נתון ש- $X \sim N(\mu, \sigma^2)$ . דגמו 5 תצפיות מאותה התפלגות והתבוננו במוצע

המדגם  $\bar{X}$ . לכן:  $P(\bar{X} > \mu)$  יהיה (בחרו בתשובה הנכונה):

- א. 0.
- ב. 0.5.
- ג. 1.
- ד. לא ניתן לדעת.

15 נתון ש- $X$  מתפלג כלשהו עם תוחלת:  $\mu$  ושונות  $\sigma^2$ .

החליטו לבצע מדגם בגודל 200 מתוך ההפלגות הנתונה לפי משפט הגבול המרכזי מתקיים (בחרו בתשובה הנכונה):

א.  $X \sim N\left(\mu, \frac{\sigma^2}{200}\right)$ .

ב.  $\mu \sim N\left(\mu, \frac{\sigma^2}{200}\right)$ .

ג.  $\bar{X} \sim N(\mu, \sigma^2)$ .

ד.  $\bar{X} \sim N\left(\mu, \frac{\sigma^2}{200}\right)$ .

16 נתון ש- $X \sim N(\mu, \sigma^2)$ . אם נדגום  $n$  תצפיות מתוך ההתפלגות ונגדיר:  $\bar{X} = \frac{\sum_{i=1}^n X_i}{n}$ ,

אזי (בחרו בתשובה הנכונה):

א.  $\mu$  ו- $\bar{X}$  יהיו משתנים מקריים.

ב.  $\mu$  יהיה משתנה מקרי ו- $\bar{X}$  קבוע.

ג.  $\bar{X}$  יהיה משתנה מקרי ו- $\mu$  קבוע.

ד.  $\mu$  ו- $\bar{X}$  יהיו קבועים.

17 משקל חפיסת שוקולד בקו ייצור מתפלג עם ממוצע 100 גרם. החפיסות נארזות

בקרטון המכיל 36 חפיסות שוקולד אקראיות. ההסתברות שהמשקל הממוצע

של חפיסות השוקולד בקרטון יהיה מעל 99 גרם הוא 0.9932.

א. מהי סטיית התקן של משקל חפיסת שוקולד בודדת?

ב. מה הסיכוי שמתוך 4 קרטונים בדיוק קרטון אחד יהיה עם משקל ממוצע

לחפיסה הנמוך מ-100 גרם?

**18** משתנה מקרי כלשהו מתפלג עם סטיית תקן של 20. מה הסיכוי שאם נדגום 100 תצפיות בלתי תלויות מאותה התפלגות אזי ממוצע המדגם יסטה מתוחלתו בפחות מ-2?

**19** מספר המכוניות הנכנסות לחניון "בציר" במשך היום מתפלג פואסונית עם קצב של מכונית אחת לדקה. שומר מסר נתונים על מספר המכוניות שנכנסות בכל שעה לגבי 40 שעות שאסף נתונים. מה ההסתברות שממוצע מספר המכוניות שנכנסו לחניון לשעה בשעות אלה יהיה לפחות 63?

**20** הוכיחו שאם משתנה מתפלג כלשהו עם תוחלת  $\mu$  ושונות  $\sigma^2$ , ומבצעים מדגם בגודל  $n$  של תצפיות בלתי תלויות מהמשתנה, אזי מתקיימות התכונות הבאות

$$E(\bar{x}) = \mu \text{ ו- } V(\bar{x}) = \frac{\sigma^2}{n}.$$

## תשובות סופיות:

- (1) א. כלל הסטודנטים במכללה שסיימו סטטיסטיקה א. ב. ציון.  
 ג. ממוצע: 78, סטיית תקן: 15.  
 ד. 2.  
 ה. 78.  
 ו. 10.6.

(2) א. להלן טבלה:

4	3	2	1	0	$X$
0.05	0.3	0.35	0.25	0.05	$P(X)$

- ב.  $\sigma = 0.973$ ,  $\sigma^2 = 0.9475$ ,  $\mu = 2.05$   
 ג.  $\sigma(\bar{X}) = 0.486$ ,  $\sigma_{\bar{x}}^2 = 0.2369$ ,  $\mu_{\bar{x}} = 2.05$

(3)  $\sigma(\bar{X}) = 1.21$ ,  $\mu_{\bar{x}} = 3.5$

- (4) א. 0.8413      ב. 0.0013  
 (5) א. 0      ב. 0  
 (6) א. 0.0465      ב. 27.71  
 (7) א. 0      ב. 0.1587  
 (8) א. 0.5468      ב. 0.6826  
 (9) א. להלן טבלה:

30	20	10	$X$
0.5	0.25	0.25	$P(X)$

- ב. התוחלת: 22.5, השונות: 68.75.  
 ג. התוחלת: 22.5, השונות: 13.75.  
 ד. 0.8997  
 (10) 0.0475  
 (11) 0.1814  
 (12) א. 0.9772      ב. 0.0228      ג. 271  
 (13) 0.5  
 (14) ב'  
 (15) ד'  
 (16) ג'  
 (17) א. 2.429      ב. 0.25  
 (18) 0.6826  
 (19) 0.0071  
 (20) שאלת הוכחה.

## התפלגות סכום תצפיות בלתי תלויות ומשפט הגבול המרכזי:

**רקע:**

כעת נדון בסטטיסטי המבטא את סכום התצפיות במדגם:  $T = \sum_{i=1}^n X_i$ .  
 כאשר כל התצפיות נדגמו באקראי מאותה אוכלוסייה, כלומר, היו:  $X_1, \dots, X_n$  -  
 משתנים מקריים בלתי תלויים בעלי התפלגות זהה שתוחלתה  $\mu$  ושוונתה  $\sigma^2$  אזי:  
 התוחלת והשוונות של סכום התצפיות:  $E(T) = n\mu$ ,  $V(T) = n\sigma^2$ .

**דגימה מתוך התפלגות נורמלית:**

אם:  $X \sim N(\mu, \sigma^2)$ , אזי:  $Z = \frac{T - n\mu}{\sqrt{n\sigma^2}}$ ,  $T \sim N(n\mu, n\sigma^2)$

**משפט הגבול המרכזי:**

אם  $X$  מתפלג כלשהו וידוע כי:  $E(X) = \mu$ ,  $V(X) = \sigma^2$ , אזי עבור מדגם מספיק גדול (לפחות 30):  $T \rightsquigarrow N(n\mu, n\sigma^2)$

**דוגמה (פתרון בהקלטה):**

- בעיר מסוימת המשכורת הממוצעת של עובד הינה 8000 ₪. עם סטיית תקן של 2000 ₪. נדגמו 100 עובדים מהעיר שמפקידים את משכורותיהם לסניף בנק.
- מה התוחלת וסטיית התקן של סך המשכורות שיופקדו לסניף הבנק על ידי העובדים הללו?
  - מה ההסתברות שלסניף יופקד פחות מ-780 אלף ₪ ע"י אותם עובדים?

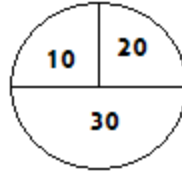
## שאלות:

- (1) המשקל באוכלוסייה מסוימת מתפלג נורמאלית עם תוחלת של 60 ק"ג וסטיית תקן של 10 ק"ג.
- א. מה הסיכוי שאדם אקראי מהאוכלוסייה ישקול מתחת ל-65 ק"ג?  
 ב. מה הסיכוי שהמשקל הממוצע של 4 אנשים אקראיים יהיה מתחת ל-65 ק"ג?  
 ג. מה הסיכוי שהמשקל הכולל של 4 אנשים אקראיים יהיה מתחת ל-240 ק"ג?
- (2) נפח יין בבקבוק מתפלג נורמאלית עם תוחלת של 750 מ"ל וסטיית תקן של 20 מ"ל. אדם קנה מארז של 4 בקבוקי יין.
- א. מהי התוחלת ומהי סטיית התקן של נפח היין במארז?  
 ב. את היין שבמארז האדם מזג לכלי שקיבולתו 3.1 ליטר.  
 מה ההסתברות שהיין יגלוש מהכלי?  
 ג. אם לא היה נתון שנפח היין מתפלג נורמאלית. האם התשובה לסעיף א' הייתה משתנה? האם התשובה לסעיף ב' הייתה משתנה?
- (3) בספר כלשהו 500 עמודים. קצב הקריאה הממוצע הוא עמוד אחד ב-4 דקות עם סטיית תקן של 1 דקות.
- א. מה ההסתברות לסיים את הפרק הראשון (40 עמודים) תוך שעתיים וחצי?  
 ב. מהו האחוזון ה-95 לזמן סיום קריאת הספר?
- (4) במגדל נבנו 40 יחידות דיור. כמו כן נבנו 135 מקומות חנייה לבניין. להלן פונקציית ההסתברות של מספר המכוניות ליחידת דיור:

$x$	1	2	3	4	5
$P(X = x)$	0.1	0.2	0.3	0.25	0.15

- נניח שמספר המכוניות ליחידת דיור בלתי תליות זו בזו ועם אותה פונקציית ההסתברות לכל יחידת דיור (אין צורך בתיקון רציפות).
- א. מהי ההסתברות שיהיה מקום בחניון המגדל לכל מכוניות הבניין?  
 ב. בהינתן ויש מקום במגדל לכל המכוניות, מה הסיכוי שבפועל מספר המכוניות נמוך מ-130?

5) בקזינו ישנה רולטה עליה מסומנים המספרים הבאים:



אדם מסובב את הרולטה וזוכה בסכום הרשום.

א. אם האדם משחק 50 פעמים, מה ההסתברות שבסך הכול יזכה בסכום של 1050 ₪ ומעלה?

ב. האדם מגיע בכל יום לקזינו ומשחק 50 פעם, עד אשר מגיע היום בו הוא יזכה ב-1050 ₪ ומעלה. מה התוחלת ומהי השונות של מספר הימים שיבלה בקזינו?

6) נתון ש- $X_i \sim \exp(\lambda=1)$ , כאשר:  $i=1,2,\dots,100$ .

$$\text{חשבו את הסיכוי: } P\left(\sum_i X_i \geq 115\right)$$

7) אורך חיי סוללה (בשעות) הוא בעל פונקציית הצפיפות הבאה:  $0 < x < 1$ ,  $f(x) = 2x$ . ברגע שסוללה מתרוקנת מחליפים אותה במיידית בסוללה אחרת. כמה סוללות יש להחזיק במלאי אם רוצים שבסיכוי של 90% לפחות המלאי יספיק עבור 35 שעות לפחות?

### תשובות סופיות:

1) א. 0.6915      ב. 0.8413      ג. 0.5

2) א. תוחלת: 3000 מ"ל, סטיית תקן: 40 מ"ל.      ב. 0.0062.

ג. סעיף א' - לא משתנה, סעיף ב' - לא פתיר, התבסס על התפלגות נורמלית.

3) א. 0.0571      ב. 2036.8

4) א. 0.883      ב. 0.7949

5) א. 0.8997      ב. תוחלת 1.111, שונות 0.1239

6) 0.0668

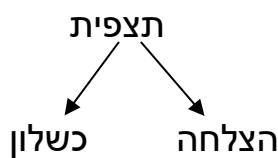
7) 56

## התפלגות מספר ההצלחות במדגם – קירוב נורמלי להתפלגות הבינומית:

רקע:

תזכורת על התפלגות בינומית:

בפרק זה נדון בהתפלגות מספר ההצלחות במדגם אקראי (תצפיות בלתי תלויות זו בזו). את מספר ההצלחות במדגם נסמן ב- $Y$ . מחלקים כל תצפית במדגם להצלחה או כישלון.



כעת מה שמשתנה מתצפית לתצפית הוא משתנה דיכוטומי (משתנה שיש לו שני ערכים). הסיכוי להצלחה יסומן עם הפרמטר  $p$  וכישלון יסומן ע"י הפרמטר:  $q = 1 - p$ . מבצעים מדגם אקראי בגודל  $n$ :  $Y \sim B(n, p)$ .

פונקציית ההסתברות של ההתפלגות הבינומית היא:  $p(y = k) = \binom{n}{k} p^k q^{n-k}$ ,

תוחלת:  $E(y) = np$ .

שונות:  $V(y) = npq$ .

קירוב נורמלי עבור התפלגות בינומית:

אם לפנינו התפלגות בינומית:  $Y \sim B(n, p)$ , ומתקיים ש:

$$1. n \cdot p \geq 5$$

$$2. n \cdot (1 - p) \geq 5$$

$$y \rightsquigarrow N(np, npq)$$

$$\cdot Z_y = \frac{y - np}{\sqrt{npq}} \quad \text{אז}$$

### תיקון רציפות:

כאשר משתמשים בקירוב הנורמלי להתפלגות הבינומית יש לבצע תיקון רציפות. הסיבה שעוברים כאן מהתפלגות בדידה להתפלגות נורמלית שהיא התפלגות רציפה. על פי הכללים הבאים:

$$1. \quad p(Y = a) \cong p\left(a - \frac{1}{2} \leq Y \leq a + \frac{1}{2}\right)$$

$$2. \quad P(Y \leq a) \cong P(Y \leq a + 0.5)$$

$$3. \quad P(Y \geq a) \cong P(Y \geq a - 0.5)$$

### הערות:

- התנאים למעבר מבינומי לנורמלי הם נזילים, כלומר משתנים ממרצה אחד לשני. התנאי שהצגתי כאן הוא הפופולרי ביותר:

$$1. \quad n \cdot p \geq 5$$

$$2. \quad n \cdot (1 - p) \geq 5$$

- ישנם מרצים שנותנים את התנאי המחמיר הבא:

$$1. \quad n \cdot p \geq 10$$

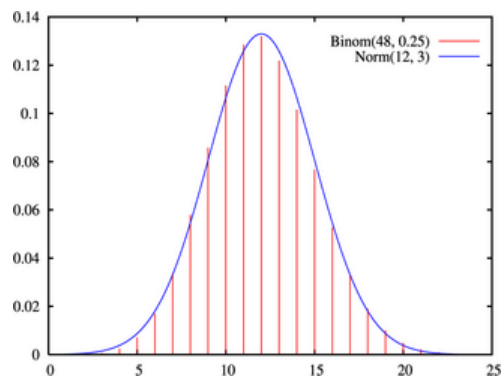
$$2. \quad n \cdot (1 - p) \geq 10$$

- וישנם מרצים שהתנאי שהם נותנים הוא:  $(n \geq 30)$ .
- תאלצו לבדוק מהו התנאי שנתנו לכם בכיתה כדי לעבור מהתפלגות בינומית לנורמלית.
- הערה נוספת היא לגבי תיקון רציפות. ישנם מרצים שלא מחייבים לבצע תיקון רציפות שהמדגמים גדולים (בדרך כלל מעל 100 תצפיות) בפתרונות שאציג תמיד אבצע תיקון רציפות במעבר מבינומי לנורמלי כיוון שכך הפתרון יהיה יותר מדויק (בכל מקרה שהמדגמים גדולים העניין זניח).

**דוגמה (הפתרון בהקלטה):**

נתון שבקרב אוכלוסיית הנוער 25% זקוקים למשקפיים. נדגמו באקראי 48 בני נוער.

1. מה הסיכוי שבדיוק 14 מתוכם יהיו זקוקים למשקפיים?
2. מה הסיכוי שלכל היותר 13 מתוכם זקוקים למשקפיים?



## שאלות:

- (1) נתון ש-20% מאוכלוסייה מסוימת אקדמאית. נבחרו באקראי 10 אנשים באותה אוכלוסייה.
- א. מה ההסתברות ששלושה מהם אקדמאים?  
 ב. מה ההסתברות שלכל היותר אחד מהם אקדמאי?  
 ג. מה התוחלת ומהי סטיית התקן של מספר האקדמאים במדגם?
- (2) במפעל 10% מהמוצרים פגומים. נלקחו 100 מוצרים באקראי מקו הייצור.
- א. מה ההסתברות שנדגמו לפחות 6 מוצרים פגומים?  
 ב. מה ההסתברות שמספר המוצרים הפגומים יהיה לכל היותר 11 במדגם?
- (3) ציוני פסיכומטרי בקרב הנרשמים למוסד מסוים מתפלגים נורמאלית עם ממוצע 500 וסטיית תקן 100. למוסד מסוים הוחלט לקבל אך ורק סטודנטים שקיבלו מעל 600 בפסיכומטרי. 100 סטודנטים אקראיים נרשמו למוסד. מה ההסתברות שלפחות 20 יתקבלו?
- (4) מטילים מטבע 50 פעמים.
- א. מה ההסתברות לקבל לכל היותר 30 עצים?  
 ב. מה ההסתברות לקבל 28 עצים לפי התפלגות הבינומית ולפי הקירוב הנורמאלי?
- (5) במטוס מקום ל-400 נוסעים. נרשמו לטיסה 430 אנשים (overbooking). מנתונים סטטיסטיים ידוע שהסיכוי שאדם שנרשם לטיסה אך יגיע הוא 0.9.
- א. מה ההסתברות שלא יהיו מקומות ישיבה לכל האנשים שהגיעו לטיסה?  
 ב. מה צריך להיות גודל המטוס כדי שבסיכוי שלפחות 95% המטוס יספיק לכמות הנרשמים?
- (6) מפעל לייצור ארטיקים טוען שהסיכוי שארטיק שהוא מייצר יהיה פגום הוא 0.01. מוכר הזמין 1000 ארטיקים מהמפעל. מה ההסתברות שהמוכר יקבל לפחות 980 ארטיקים תקינים אם טענת המפעל מוצדקת?
- (7) מהמר מטיל קובייה הוגנת 100 פעמים. בכל הטלה, אם מתקבל תוצאה זוגית בקובייה המהמר זוכה בשקל. אחרת, המהמר משלם שקל. המהמר הטיל את הקובייה 100 פעמים מה הסיכוי שהרווח של המהמר יהיה לכל היותר 10?

**תשובות סופיות:**

- |   |            |            |    |
|---|------------|------------|----|
| ג. התוחלת: 2, סטיית התקן: 1.2649.             | ב. 0.3758. | א. 0.201.  | (1 |
|   | ב. 0.6915. | א. 0.9332. | (2 |
|   |            | 0.1611.    | (3 |
| ב. בינומית - 0.0788, קירוב לנורמלית - 0.0778. |            | א. 0.9406. | (4 |
|   | ב. 0.398.  | א. 0.015.  | (5 |
|   |            | 0.9996.    | (6 |
|   |            | 0.8643.    | (7 |

## התפלגות פרופורציית ההצלחות במדגם:

### רקע:

בפרק זה נדון בהתפלגות הדגימה של פרופורציית המדגם.  
 $Y$  - מספר ההצלחות במדגם (למשל, מספר המובטלים במדגם).

$$\hat{p} = \frac{Y}{n} \text{ - פרופורציית ההצלחות במדגם.}$$

למשל, שיעור המובטלים במדגם -  $n = 200$  :

מספר המובטלים :  $Y = 20$ .

$$\hat{p} = \frac{20}{200} = 0.1 \text{ : פרופורציית המובטלים במדגם}$$

נסמן ב- $p$  את שיעור ההצלחה באוכלוסייה וב- $q$  את שיעור הכישלונות באוכלוסייה.  
 נבצע מדגם מקרי (הנחה שהתצפיות בלתי תלויות זו בזו) ונתבונן בהתפלגות של פרופורציית המדגם.

### התוחלת, השונות וסטיית התקן של פרופורציית המדגם:

$$E(\hat{p}) = p, \quad V(\hat{p}) = \frac{pq}{n}$$

משפט הגבול המרכזי עבור הפרופורציה המדגמית:

$$\text{אם: } np \geq 5 \text{ \& } nq \geq 5, \text{ אזי: } \hat{p} \sim N\left(p, \frac{pq}{n}\right) \cdot Z_{\hat{p}} = \frac{\hat{p} - p}{\sqrt{\frac{pq}{n}}}$$

### הערות:

- התנאים לקרוב הנורמאלי הם נזילים, כלומר משתנים ממרצה אחד לשני.  
 התנאי שהצגתי כאן הוא הפופולרי ביותר:
  1.  $n \cdot p \geq 5$
  2.  $n \cdot (1 - p) \geq 5$
- ישנם מרצים שנותנים את התנאי המחמיר הבא:
  1.  $n \cdot p \geq 10$
  2.  $n \cdot (1 - p) \geq 10$
- וישנם מרצים המשתמשים בתנאי:  $(n \geq 30)$ .
- תאלצו לבדוק מהו התנאי שנתנו לכם בכיתה כדי לעבור לנורמלית.

- כיוון שפרופורציה אינה חייבת להיות מספר שלם בהכרח לא נהוג לבצע כאן תיקון רציפות.

**דוגמה (פתרון בהקלטה):**

לפי נתוני משרד החינוך בעיר ירושלים ל-60% מתלמידי התיכון זכאים לתעודת בגרות. נדגמו 200 תלמידי תיכון.

- א. מה ההסתברות שהשכיחות היחסית ( $\hat{p}$ ) של הזכאים לבגרות במדגם תעלה על 60%?
- ב. מה ההסתברות שפרופורציית הזכאים לבגרות במדגם תעלה על 70%?

## שאלות:

- (1) במדינה מסוימת 10% מכלל האוכלוסייה הינם מובטלים. נדגמו באקראי 140 אנשים מהמדינה.
- מה התוחלת ומהי השונות של פרופורציות המובטלים שנדגמו?
  - מה ההסתברות שבמדגם לפחות 10% יהיו מובטלים?
  - מה ההסתברות שלכל היותר 9% מהמדגם יהיו מובטלים?
- (2) נניח כי 30% מהאוכלוסייה תומכים בהצעת חוק מסוימת. אם נדגום מהאוכלוסייה 200 איש. חשבו את ההסתברויות הבאות:
- לפחות 35% יתמכו בהצעת החוק במדגם.
  - לכל היות 25% יתמכו בהצעת החוק במדגם.
  - יותר מ-27% יתמכו בהצעת החוק במדגם.
- (3) לפי נתוני משרד התקשורת 40% מהאוכלוסייה מחזיקים בטלפון נייד מסוג "סמארטפון". נדגמו 400 אנשים מהאוכלוסייה.
- מה ההסתברות שבמדגם לכל היותר ל-40% יש סמארטפון?
  - מה ההסתברות שבמדגם לרוב יש סמארטפון?
  - מה ההסתברות שפרופורציית בעלי הסמארטפון במדגם תסטה מהפרופורציה באוכלוסייה בלא יותר מ-4%?
  - כיצד התשובה לסעיף הקודם הייתה משתנה אם הינו מגדילים את גודל המדגם?
- (4) נתון כי 80% מבתי האב מחוברים לאינטרנט. נדגמו 400 בתי אב אקראיים.
- מה ההסתברות שלפחות 340 מהם מחוברים לאינטרנט?
  - מה ההסתברות שפרופורציית המחוברים לאינטרנט במדגם תסטה מהפרופורציה האמיתית ביותר מ-4%?
  - כמה בתי אב יש לדגום כדי שהסטייה בין הפרופורציה המדגמית לפרופורציה האמיתית לא תעלה על 3% בהסתברות של 90%?
  - מהו העשירון התחתון של התפלגות פרופורציית המדגם?
- (5) נתון שציוני פסיכומטרי מתפלגים נורמלית עם תוחלת 500 וסטיית תקן 100. ב"מועדון ה-700" נכללים נבחנים שמקבלים ציון מעל 700 בפסיכומטרי. מה הסיכוי שבמועד בו נבחנו 2000 נבחנים אקראיים יהיו לפחות 3% המשתייכים למועדון?

6 נתון ש- $X \sim B(n, p)$ , ונגדיר את המשתנה הבא:  $\hat{P} = \frac{X}{n}$ .

א. הוכיחו ש:  $E(\hat{P}) = p$ ,  $V(\hat{P}) = \frac{p(1-p)}{n}$ .

ב. מה  $p$  המביא את  $V(\hat{P})$  להיות במקסימום?

### תשובות סופיות:

- (1) א. התוחלת: 0.1, השונות: 0.00064. ב. 0.5. ג. 0.3446.
- (2) א. 0.0618. ב. 0.0618. ג. 0.8238.
- (3) א. 0.5. ב. 0. ג. 0.8968. ד. גדלה.
- (4) א. 0.0062. ב. 0.0456. ג. 0.481. ד. 0.77436.
- (5) 0.0154.
- (6) א. שאלת הוכחה. ב. 0.5.

## חוק המספרים הגדולים:

### רקע:

חוק המספרים הגדולים מתייחס להשפעת הגדלת גודל המדגם על הסיכוי של פרופורציית המדגם (או ממוצע המדגם) להיות קרובה מהפרופורציה האמיתית (או מהממוצע האימתי).

### החוק לגבי פרופורציה:

נניח שמבצעים מדגם מקרי מתוך אוכלוסייה אינסופית בה פרופורציית ההצלחות היא  $p$ , ככל שהמדגם גדול יותר: כך הסיכוי שפרופורציית המדגם ( $\hat{p}$ ) תהיה בקרבת הפרופורציה באוכלוסייה ( $P$ ) גבוה יותר.

ולכן הסיכוי לקבל ערך חריג הרחוק מהפרופורציה של האוכלוסייה קטן יותר. בכתיבה מתמטית רושמים את חוק המספרים הגדולים לגבי הפרופורציה באופן

$$\text{הבא: } \lim_{n \rightarrow \infty} \hat{P}_n = P$$

בספרות המקצועית קוראים לחוק הזה החוק החזק של המספרים הגדולים.

את החוק החלש של המספרים הגדולים רושמים באופן הבא:  $P(|\hat{P} - P| < \varepsilon) \xrightarrow{n \rightarrow \infty} 1$ .

**הערה:** ככל שהמדגם גדל הסיכוי שפרופורציית המדגם תהיה בדיוק הפרופורציה האמיתית הולך וקטן.

**החוק לגבי ממוצע:** נניח שמבצעים מדגם מקרי מתוך התפלגות שבה התוחלת  $\mu$  והשונות סופית. ככל שהמדגם גדול יותר, כך הסיכוי שממוצע המדגם ( $\bar{X}$ ) יהיה בקרבת הממוצע באוכלוסייה ( $\mu$ ) גבוה יותר. לכן, הסיכוי לקבל ערך חריג הרחוק מהממוצע של האוכלוסייה קטן יותר. בכתיבה מתמטית רושמים את חוק המספרים הגדולים לגבי הממוצע באופן הבא:

$$\lim_{n \rightarrow \infty} \bar{X}_n = \mu$$

בספרות המקצועית קוראים לחוק הזה החוק החזק של המספרים הגדולים.

את החוק החלש של המספרים הגדולים רושמים באופן הבא:  $P(|\bar{X} - \mu| < \varepsilon) \xrightarrow{n \rightarrow \infty} 1$ .

### דוגמה (פתרון בהקלטה):

באוכלוסייה מסוימת 20% מהאוכלוסייה מובטלת. איזה סיכוי יותר גבוה? במדגם בגודל 100 פרופורציית המובטלים תסטה מהפרופורציה האמיתית בלא יותר מ-4%. במדגם בגודל 200 פרופורציית המובטלים תסטה מהפרופורציה האמיתית בלא יותר מ-4%. הסבירו.

## שאלות:

- (1) באוכלוסייה מסוימת 20% מהאוכלוסייה מובטלת. איזה סיכוי יותר גבוה?  
 א. אחד מתוך מדגם של חמישה יהיה מובטל.  
 ב. שניים מתוך עשרה יהיו מובטלים. הסבירו וחשבו.
- (2) באוכלוסייה מסוימת 20% מהאוכלוסייה מובטלת. איזה סיכוי יותר גבוה?  
 א. לפחות 3 מתוך 10 יהיו מובטלים  
 ב. לפחות 30 מתוך 100 יהיו מובטלים. הסבירו.
- (3) גובה של אוכלוסייה מסוימת מתפלג נורמלית עם ממוצע 170 ס"מ וסטיית תקן של 10 ס"מ. דוגמים 4 אנשים באקראי.  
 א. מה ההסתברות שהגובה הממוצע שלהם יהיה מעל 176 ס"מ.  
 ב. כיצד התשובה לסעיף הקודם הייתה משתנה אם הינו מגדילים את גודל המדגם? נמקו.
- (4) ידוע שבהצעת חוק מסוימת תומכים 60% מהציבור. נדגמו באקראי 10 אנשים.  
 א. מה ההסתברות שבדיוק 60% מהמדגם תומכים בהצעת החוק?  
 ב. כיצד התשובה הייתה משתנה אם היו דוגמים 20 אנשים?
- (5) שני חוקרים ביצעו מדגם מאותה אוכלוסייה. חוקר א דגם 20 תצפיות והשני דגם 40 תצפיות וכל אחד מהם חישב את ממוצע המדגם:  $\bar{X}_{20}$  ו-  $\bar{X}_{40}$ . ידוע שהתפלגות היא נורמלית ושהתוחלת באוכלוסייה הינה 500. בסעיפים הבאים נמקו אילו הסתברויות מהזוגות המוצגים גדולה יותר או שהן שוות ונמקו.  
 א.  $P(\bar{X}_{40} > 500)$  או  $P(\bar{X}_{20} > 500)$   
 ב.  $P(480 < \bar{X}_{40} < 520)$  או  $P(480 < \bar{X}_{20} < 520)$   
 ג.  $P(\bar{X}_{40} < 490)$  או  $P(\bar{X}_{20} < 490)$
- (6) נתון ש:  $X \sim G(P=0.1)$ . מבצעים מדגם אקראי בגודל  $n$  מההתפלגות הזו ומחשבים את ממוצע המדגם:  $\bar{X}_n$ . הוכיחו:  $\lim_{n \rightarrow \infty} \bar{X}_n = 10$ .

### תשובות סופיות:

- (1) אחד מתוך מדגם של חמישה יהיה מובטל.
- (2) לפחות 3 מתוך 10 יהיו מובטלים.
- (3) א. 0.1151. ב. קטנה.
- (4) א. 0.2508. ב. קטן.
- (5) א.  $P(\bar{X}_{40} > 500) = P(\bar{X}_{20} > 500)$ .
- ב.  $P(480 < \bar{X}_{40} < 520) > P(480 < \bar{X}_{20} < 520)$ .
- ג.  $P(\bar{X}_{40} < 490) < P(\bar{X}_{20} < 490)$ .
- (6) שאלת הוכחה.

# מבוא להסתברות

פרק 51 - קשרים בין התפלגויות מיוחדות

תוכן העניינים

234	1. התפלגות סכום התפלגויות פואסוניות בלתי תלויות
238	2. התפלגות סכום התפלגויות בינומיות בלתי תלויות
241	3. התפלגות סכום התפלגויות גיאומטריות בלתי תלויות
244	4. התפלגות מותנית בסכום התפלגויות פואסוניות בלתי תלויות
248	5. התפלגות מותנית בסכום של משתנים המתפלגים בינומית
251	6. הקשר בין התפלגות פואסונית להתפלגות מעריכית

## התפלגות סכום התפלגויות פואסוניות בלתי תלויות:

רקע:

קיימות  $n$  התפלגויות פואסוניות בלתי תלויות זו בזו:  $X_i \sim P(\lambda_i)$ ,  $i=1,2,\dots,n$ .

ניצור משתנה מקרי חדש שהוא סכום של  $n$  ההתפלגויות הללו:  $\sum_{i=1}^n X_i$ .

משתנה חדש זה מתפלג גם הוא פואסוני עם פרמטר:  $\lambda = \sum_{i=1}^n \lambda_i$ .

לסיכום, אם:  $X_i \sim P(\lambda_i)$ ,  $i=1,2,\dots,n$  והמשתנים בלתי תלויים זה בזה,

אז מתקיים:  $\sum_{i=1}^n X_i \sim P\left(\sum_{i=1}^n \lambda_i\right)$ .

דוגמה (פתרון בהקלטה):

מפעל ממתקים מייצר סוכריות ג'לי בזרם פואסוני. הסוכריות נוצרות בצבעים כתום, ירוק, אדום וסגול. להלן טבלה אשר מציגה את תוחלת מספר הסוכריות שנוצרות בכל אחד מהצבעים בשניית ייצור במפעל. מספר הסוכריות שנוצרות בשנייה כלשהי בכל אחד מהצבעים בלתי תלוי במספר הסוכריות בצבעים האחרים.

צבע	תוחלת
כתום	4
ירוק	3
אדום	3
סגול	2

- מה ההסתברות שבשנייה כלשהי ייוצרו בדיוק 14 סוכריות ג'לי במפעל?
- מה ההתפלגות של מספר סוכריות הג'לי שמיוצרות בדקה כלשהי במפעל?
- מה ההסתברות שבשנייה כלשהי המפעל ייצר 3 סוכריות כתומות ו-8 סוכריות בצבעים אחרים?

תשובה:



$$. P(T = 14) = e^{-12} \cdot \frac{12^{14}}{14!} = 0.0905 \quad .א$$

$$. \sum_{j=1}^{60} T_j \sim P(12 \cdot 60 = 720) , j \text{ מספר סוכריות שמיוצרות בשנייה } .ב$$

$$. P(X_1 = 4 \cap T = 8) = P(X_1 = 4 \cap \sum_{i=2}^4 X_i = 4) = P(X_1 = 4) \cdot P(\sum_{i=2}^4 X_i = 4) = \frac{e^{-4} \cdot 4^4}{4!} \cdot \frac{e^{-8} \cdot 8^4}{4!} = 0.0112 \quad .ג$$


## שאלות:

- (1) איזבלה היא רשת של חנויות בגדים. לרשת שלוש חנויות שהרכישות בהן נעשות בזרם פואסוני. בחנות A קצב הרכישות הוא 1 ל-10 דקות, בחנות B קצב הרכישות הוא 1 לשעה, ובחנות C קצב הרכישות הוא 2 לרבע שעה. אין תלות בין מספרי הרכישות בחנויות הרשת השונות.



- א. מהי התוחלת ומהי סטיית התקן של מספר הרכישות בכלל חנויות הרשת בשעה?  
 ב. מה ההסתברות שבשעה כלשהי מספר הרכישות בחנויות הרשת יהיה לכל היותר 5?

- (2) במפעל פועלות שתי מכונות. מספר התקלות במכונה א' מתפלג פואסוני עם תוחלת של 2 תקלות ליום, ומספר התקלות במכונה ב' מתפלג פואסוני עם תוחלת של תקלה אחת ביום.



- מספרי התקלות במכונות השונות בלתי תלויים זה בזה.  
 א. מה ההתפלגות של מספר התקלות במפעל ביום?  
 ב. מה ההסתברות שביומיים מסוימים כלל לא יהיו תקלות במפעל?  
 ג. מה ההסתברות שביומיים מסוימים יהיו במפעל בדיוק 5 תקלות, שמהן בדיוק 3 תקלות במכונה א'?

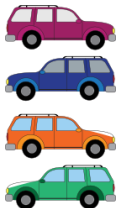
- (3) נתון ש- $X_i \sim P(1)$ ,  $i=1,2,3$  והמשתנים בלתי תלויים זה בזה.

$$Y = \sum_{i=1}^3 X_i$$

נגדיר את  $Y$  באופן הבא:

- א. מהי התוחלת ומהי השונות של  $Y$ ?  
 ב. חשבו את:  $E|Y-2|$ .

- (4) לצומת נכנסות מכוניות מ-3 כיוונים שונים. מספר המכוניות הנכנסות מכיוון  $i$  הוא משתנה מקרי שמתפלג פואסוני עם פרמטר  $i$  מכוניות לשעה כש- $i=1,2,3$ . אין תלות בין מספרי המכוניות המגיעות לצומת מכיוונים שונים.  $W$  הוא משתנה מקרי שמייצג את מספר המכוניות המגיעות לצומת בשעה משלושת הכיוונים יחד.



- א. חשבו את:  $P(W = k | W > 0)$ ,  $k = 1, 2, 3, \dots$   
 ב. חשבו את:  $E\left(\frac{1}{1+W}\right)$ .

(5) ענו על הסעיפים הבאים:

א. הוכיחו שאם:  $X_1 \sim P(\lambda_1)$  ו-  $X_2 \sim P(\lambda_2)$  והמשתנים בלתי תלויים זה

בזה, אז מתקיים:  $X_1 + X_2 \sim P(\lambda_1 + \lambda_2)$ .

ב. הוכיחו שאם:  $X_i \sim P(\lambda_i)$ ,  $i = 1, 2, \dots, n$  והמשתנים בלתי תלויים זה

בזה, אז מתקיים:  $\sum_{i=1}^n X_i \sim P\left(\sum_{i=1}^n \lambda_i\right)$ .

### תשובות סופיות:

(1) א. תוחלת: 15, סטיית תקן:  $\sqrt{15}$ . ב. 0.0028.

(2) א. פואסונית עם פרמטר 3. ב. 0.0025. ג. 0.0529.

(3) א. תוחלת: 3, שונות: 3. ב.  $1 + \frac{10}{e^3}$ .

(4) א.  $\frac{e^{-6} \cdot 6^k}{k! (1 - e^{-6})}$ . ב.  $\frac{e^{-6} \cdot (e^6 - 1)}{6}$ .

(5) שאלת הוכחה.

## התפלגות סכום התפלגויות בינומיות בלתי תלויות:

### רקע:

אם יש כמה משתנים מקריים בלתי תלויים זה בזה שלכל אחד מהם התפלגות בינומית עם אותו פרמטר  $p$ , סכום המשתנים יתפלג בינומית עם פרמטר  $p$ . באופן יותר מפורט:

אם  $X_i$  הוא משתנה מקרי שמתפלג בינומית עם הפרמטרים  $(n_i, p)$  לכל:  $i = 1, 2, \dots, m$ , והמשתנים בלתי-תלויים זה בזה, אז  $\sum_{i=1}^m X_i$  הוא משתנה מקרי בינומי עם הפרמטרים:  $\left(\sum_{i=1}^m n_i, p\right)$ .

### דוגמה:



ערן מטיל קובייה ארבע פעמים, ודינה מטילה קובייה פעמיים. מהי התפלגות מספר הפעמים שבהן ערן ודינה קיבלו תוצאה קטנה מ-3? מהי תוחלת מספר הפעמים שבהן ערן ודינה קיבלו תוצאה קטנה מ-3?

תשובה:

ב"ת

$$X_1 \sim B\left(n_1 = 4, P = \frac{2}{6} = \frac{1}{3}\right) \text{ - מספר הפעמים שערן קיבלת פחות מ-3.}$$

$$X_2 \sim B\left(n_2 = 2, P = \frac{1}{3}\right) \text{ - מספר הפעמים שדינה קיבלת פחות מ-3.}$$

$$X_1 + X_2 \sim B\left(n = 4 + 2 = 6, P = \frac{1}{3}\right)$$

$$X \sim B(n, p) \Rightarrow E(x) = n \cdot P$$

$$E(X_1 + X_2) = 6 \cdot \frac{1}{3} = 2$$

## שאלות:



- (1) יוסי מטיל מטבע ארבע פעמים, ודנה מטילה מטבע שש פעמים. אם  $X$  הוא סך הפעמים שיוסי ודנה יקבלו עץ.  
 א. מה ההתפלגות של  $X$ ?  
 ב. מה התוחלת ומה השונות של  $X$ ?



- (2) במבחן שני חלקים. חלק א' כולל 10 שאלות עם 4 תשובות אפשריות שרק אחת מהן נכונה. חלק ב' כולל 10 שאלות מסוג נכון או לא נכון. סטודנט ניגש לבחינה ומנחש את כל התשובות בבחינה.  
 א. מה ההסתברות שהסטודנט יענה נכון לכל היותר על 3 שאלות?  
 ב. מה התוחלת ומה השונות של מספר התשובות הנכונות בבחינה של הסטודנט?



- (3) רוני הזמין למסיבת יום ההולדת שלו 18 אורחים – 10 גברים ו-8 נשים. כל גבר יגיע למסיבה בהסתברות 0.7, וכל אישה תגיע למסיבה בהסתברות 0.9. ידוע שאין תלות בין הגעת גבר אחד להגעתו של גבר אחר, בין הגעת אישה אחת להגעתה של אחרת ובין הגעת גבר להגעתה של אישה.  
 א. מה ההסתברות שיגיעו למסיבה בדיוק 9 גברים ו-8 נשים?  
 ב. מה הסיכוי שיגיעו למסיבה לפחות 17 אורחים?

- (4) נתון ש:  $X \sim B(2, 0.5)$ ,  $Y \sim B(3, 0.6)$ . ידוע ש- $X$  ו- $Y$  בלתי תלויים זה בזה.  
 א. מצאו את ההתפלגות של  $X + Y$ .  
 ב. מצאו את:  $P(X + Y = 2 | X > 0)$ .

- (5) נתון ש- $X$  ו- $Y$  הם משתנים מקריים בלתי-תלויים.  $X$  מתפלג בינומית עם הפרמטרים  $n, p$  ו- $Y$  מתפלג בינומית עם הפרמטרים  $m, p$ .  
 האם גם המשתנים המקריים  $X$  ו- $W = X + Y$  בלתי-תלויים זה בזה?

- (6)  $X$  ו- $Y$  הם משתנים מקריים בלתי-תלויים.  $X$  מתפלג בינומית עם הפרמטרים  $n_x, p$  ו- $Y$  מתפלג בינומית עם הפרמטרים  $n_y, p$ .  
 הוכיחו ש- $X + Y$  מתפלג בינומית עם הפרמטרים:  $n_x + n_y, p$ .

**תשובות סופיות:**

- (1) א.  $X \sim B(10, 0.5)$  .  
ב.  $E(X) = 5, V(X) = 2.5$  .
- (2) א. 0.0178 .  
ב. תוחלת: 7.5, שונות: 4.375 .
- (3) א. 0.0521 .  
ב. 0.0751 .
- (4) א. עיין בסרטון הוידאו .  
ב. 0.2133 .
- (5) המשתנים תלויים .
- (6) שאלת הוכחה .

## התפלגות סכום התפלגויות גיאומטריות בלתי תלויות:

### רקע:

אם יש כמה משתנים מקריים בלתי תלויים זה בזה שלכל אחד מהם התפלגות גיאומטרית עם אותו פרמטר  $p$ , סכום המשתנים יתפלג בינומית שלילית עם פרמטר  $p$ . באופן יותר מפורט:

אם  $X_i$  הוא משתנה מקרי שמתפלג גיאומטרית עם הפרמטר  $p$  לכל  $i = 1, 2, \dots, m$ , ואם ידוע שהמשתנים בלתי-תלויים זה בזה, אז  $\sum_{i=1}^m X_i$  הוא משתנה מקרי שמתפלג בינומית שלילית עם הפרמטרים  $(m, p)$ .

### דוגמה:

עודד משחק בשני שלבים:

1. בשלב הראשון הוא מטיל קובייה עד אשר הוא מקבל את התוצאה 1. ברגע שהוא מקבל את התוצאה 1 הוא עובר לשלב השני, ובו הוא שוב מטיל את הקובייה עד שהוא מקבל את התוצאה 4.



- א. מהי ההתפלגות של מספר ההטלות בשלב הראשון?
- ב. מהי ההתפלגות ש מספר ההטלות בשלב השני?
- ג. מהי ההתפלגות של מספר ההטלות במשחק?

תשובות (פתרון בהקלטה):

א.  $X_1 =$  מספר ההטלות בשלב הראשון,  $X_1 \sim G\left(\frac{1}{6}\right)$ .

ב.  $X_2 =$  מספר ההטלות בשלב השני,  $X_2 \sim G\left(\frac{1}{6}\right)$ .

ג.  $X_1 + X_2 \sim NB\left(2, \frac{1}{6}\right)$ .

## שאלות:

- (1) יוסי מטיל מטבע עד לקבלת "עץ", ודנה מטילה מטבע (באופן לא תלוי ביוסי) עד לקבלת "פליי".  $X$  הוא מספר ההטלות של יוסי ודנה יחד.
- א. מה ההתפלגות של  $X$ ?
- ב. מה התוחלת ומה השונות של  $X$ ?



- (2) אדם מנסה להתקשר למוקד שירות. הוא מתקשר עד אשר יקבל מענה. ההסתברות למענה במוקד השירות היא 0.4 בכל פעם, ללא תלות בניסיונות האחרים. אחרי שסיים את השיחה שבה קיבל מענה, האדם נזכר ששכח לשאול שאלה נוספת. הוא מתקשר שוב למוקד השירות עד לקבלת מענה.
- א. מה ההסתברות שבסך הכול האדם התקשר למוקד השירות שש פעמים?
- ב. מה ההסתברות שבסך הכול האדם התקשר למוקד השירות שבע פעמים, אם ידוע שבפעם הראשונה הוא נאלץ להתקשר שלוש פעמים עד לקבלת מענה?

- (3)  $X_i$  הוא משתנה מקרי גיאומטרי עם הפרמטר 0.2 לכל:  $i=1,2,\dots,5$ , וכמו כן נתון ש- $X_1, X_2, \dots, X_5$ . בלתי-תלויים זה בזה.

א. מה ההסתברות ש:  $\sum_{i=1}^5 X_i = 5$ ?

ב. חשבו את:  $P\left(\sum_{i=1}^5 X_i = 12 \mid X_1 = 2\right)$ .

- (4) נתון ש:  $Y \sim G(0.6)$ ,  $X \sim G(0.5)$ .  $X$  ו- $Y$  בלתי-תלויים זה בזה.

א. מצאו את ההתפלגות של  $X+Y$ .

ב. מצאו את:  $P(X+Y=2 \mid X>0)$ .

- (5)  $X$  ו- $Y$  הם משתנים מקריים בלתי-תלויים.  $X$  מתפלג גיאומטרית עם הפרמטר  $p$  ו- $Y$  מתפלג גיאומטרית עם הפרמטר  $p$ . הוכיחו ש- $X+Y$  מתפלג בינומית שלילית עם הפרמטרים  $2$  ו- $p$ .

- (6) הוכיחו את הטענה: אם  $X_i$  הוא משתנה מקרי שמתפלג גיאומטרית עם הפרמטר  $p$  לכל:  $i=1,2,\dots,m$  ואם:  $X_1, X_2, \dots, X_m$ . בלתי-תלויים זה בזה, אז  $\sum_{i=1}^m X_i$  הוא משתנה מקרי שמתפלג בינומית שלילית עם הפרמטרים  $(m, p)$ .

**תשובות סופיות:**

- (1) א.  $X \sim NB\left(2, \frac{1}{2}\right)$  .  
 ב. תוחלת: 4, שונות: 4.
- (2) א. 0.10368 .  
 ב. 0.0864 .
- (3) א. 0.00032 .  
 ב. 0.0352 .
- (4) א.  $P(X + Y = k) = 6 \cdot 4^k (1.25^k - 1.25)$ ,  $k = 2, 3, \dots$  .  
 ב. 0.3 .
- (5) שאלה הוכחה.  
 (6) שאלת הוכחה.

## התפלגות מותנית בסכום התפלגויות פואסוניות בלתי תלויות:

### רקע:

אם  $X$  ו- $Y$  הם משתנים מקריים בלתי-תלויים המתפלגים פואסוניית עם הפרמטרים  $\lambda_1$  ו- $\lambda_2$  בהתאמה, אז ההתפלגות של המשתנה המקרי המותנה  $X$

בהינתן  $X + Y = n$  היא בינומית עם הפרמטרים  $n$  ו- $\frac{\lambda_1}{\lambda_1 + \lambda_2}$ .

### דוגמה:



מספר בני האדם הנכנסים לבית קפה מסוים בשעה מתפלג פואסוניית עם ממוצע 6. מספר הכלבים הנכנסים לבית הקפה בשעה מתפלג פואסוניית עם שונות 1. נניח שאין תלות בין השניים. מה הסיכוי שבשעה האחרונה נכנסו לבית הקפה בדיוק שני כלבים, אם ידוע שבסך הכול נכנסו שבעה בני אדם וכלבים?

### תשובה:

$X \sim P(\lambda_1 = 1)$  - מספר הכלבים הנכנסים בשעה.

$Y \sim P(\lambda_2 = 6)$  - מספר בני האדם הנכנסים בשעה.

$X, Y$  ב"ת.

$$X \sim P(\lambda_1)$$

$$Y \sim P(\lambda_2)$$

⇓

$$X | X + Y = n \sim B\left(n, \frac{\lambda_1}{\lambda_1 + \lambda_2}\right)$$

$$X | X + Y = 7 \sim B\left(7, \frac{1}{7}\right)$$

$$P(X = 2 | X + Y = 7) = \binom{7}{2} \cdot \left(\frac{1}{7}\right)^2 \cdot \left(\frac{6}{7}\right)^5 = 0.1983$$

## שאלות:

1) מספר הפסקות החשמל היזומות במפעל זורקס מתפלג פואסונית עם תוחלת של 2 בחודש. מספר הפסקות החשמל הלא-יזומות במפעל מתפלג פואסונית עם תוחלת של 3 בחודש. מספר הימים בחודש כלשהו זניח. אין תלות בין מספר ההפסקות היזומות למספר ההפסקות שאינן יזומות.



א. מה הסיכוי שברבעון הראשון של השנה יהיו בדיוק 5 הפסקות חשמל במפעל וגם שבחודש ינואר של אותה שנה תהיה בדיוק הפסקה אחת?

ב. מהי התוחלת של מספר החודשים שיעברו מינואר 2020 ועד החודש הראשון שבו לא יהיו כלל הפסקות חשמל?

ג. אם בחודש מרץ הבא יהיו בדיוק 6 הפסקות חשמל במפעל זורקס, מה התוחלת של מספר ההפסקות היזומות שיהיו באותו החודש?

2) מספר המכירות המתרחשות בשעה בחנות הצעצועים טויזים מתפלג פואסונית עם תוחלת של 6 בשעה. החנות פתוחה בכל יום במשך שמונה שעות, מהשעה 11:00.



א. מה ההסתברות שבשעה מסוימת יהיו לפחות 3 מכירות בחנות הצעצועים טויזים?

ב. מה ההסתברות שבשעה הראשונה שלאחר פתיחת החנות יהיו 4 מכירות, אם באותו היום יהיו בסך הכול 50 מכירות?

ג. בכל יום מנהל החנות מקבל דוח ובו פירוט של מספר הרכישות שהיו בכל שעה שלמה מאז פתיחת החנות. מה ההסתברות שמחר, מתוך שמונה השעות שבהן החנות פתוחה, תהיה בדיוק שעה אחת שבה יהיו בדיוק 5 רכישות?

3) מספר הגברים המגיעים לטיפול בחדר המיון של בית החולים סורוקה מתפלג פואסונית בקצב של 2 לשעה. מספר הנשים המגיעות לטיפול באותו חדר מיון מתפלג פואסונית בקצב של 1 לשעה. אין תלות בין מספר הגברים המגיעים לחדר המיון ובין מספר הנשים המגיעות אליו.



א. מה ההסתברות שבשעה מסוימת יגיע לפחות אדם אחד לטיפול בחדר המיון של בית החולים סורוקה?

ב. אם בשעה מסוימת הגיעו לטיפול בחדר המיון של בית החולים סורוקה בדיוק 5 אנשים, מה ההסתברות שמתוכם יש בדיוק 2 נשים?

ג. אם ביממה מסוימת הגיעו לטיפול בחדר המיון של בית החולים סורוקה בדיוק 60 אנשים, מהי השונות של מספר הגברים שהגיעו לטיפול בחדר המיון באותה היממה?

(4) בסניף דואר מסוים יש שלושה אשנבים (1, 2 ו-3). מספר האנשים הפונים לאשנב 1 במשך דקה הוא משתנה מקרי המתפלג פואסונית עם הפרמטר 2, מספר האנשים הפונים לאשנב 2 במשך דקה הוא משתנה מקרי המתפלג פואסונית עם הפרמטר 3, ומספר האנשים הפונים לאשנב 3 במשך דקה הוא משתנה מקרי המתפלג פואסונית עם הפרמטר 4.



אין תלות בין מספרי האנשים הנכנסים לסניף בדקות שונות, ואין תלות בין מספרי האנשים שפונים לאשנבים השונים. כל אדם שנכנס לסניף הדואר פונה בהכרח לאחד מן האשנבים.

- א. מהי ההסתברות שבין 8:00 ל-8:01 ייכנסו תשעה אנשים לסניף הדואר?  
 ב. אם ידוע שבין 8:00 ל-8:01 נכנסו תשעה אנשים לסניף הדואר, מהי ההסתברות ששלושה מהם פנו לאשנב 1?  
 ג. אם ידוע שבין 8:00 ל-8:01 נכנסו לסניף הדואר שלושה אנשים שפנו לאשנב 1, מהי ההסתברות שבסך הכול נכנסו לסניף הדואר באותה הדקה תשעה אנשים?

(5) הוכיחו את הטענה שאם  $X$  ו- $Y$  הם משתנים מקריים בלתי-תלויים המתפלגים פואסונית עם הפרמטרים  $\lambda_1$  ו- $\lambda_2$ , בהתאמה, אז ההתפלגות של המשתנה המקרי

$$X + Y = n$$

המותנה  $X$ , בהינתן  $X + Y = n$ , היא בינומית עם הפרמטרים  $n$  ו- $\frac{\lambda_1}{\lambda_1 + \lambda_2}$ .

(6)  $X_1, X_2, \dots, X_{100}$  הם משתנים מקריים בלתי-תלויים.

נניח כי לכל:  $i = 1, \dots, 100$  ההתפלגות של המשתנה המקרי  $X_i$  היא פואסונית

$$\text{עם הפרמטר } \frac{i}{50}.$$

א. מצאו את ההתפלגות המותנית של  $\sum_{i=1}^{100} X_i$  בתנאי ש:  $X_{100} = n$ .

ב. מצאו את ההתפלגות המותנית של  $X_{100}$  בתנאי ש:  $\sum_{i=1}^{100} X_i = n$ .

**תשובות סופיות:**

- (1) א. 0.0946      ב. 148.4      ג. 2.4
- (2) א. 0.938      ב. 0.1209      ג. 0.3772
- (3) א. 0.9502      ב.  $\frac{80}{243}$       ג.  $13\frac{1}{3}$
- (4) א. 0.1318      ב. 0.2041      ג. 0.149
- (5) שאלה הוכחה.
- (6) א.  $\frac{e^{-99} \cdot 99^{k-n}}{(k-n)!}$   $k \geq n$       ב.  $B\left(n, \frac{2}{101}\right)$

## התפלגות מותנית בסכום של משתנים המתפלגים בינומית:

### רקע:

אם  $X$  ו- $Y$  הם משתנים מקריים בלתי-תלויים שמתפלגים בינומית עם הפרמטרים:  $(n_x, p)$  ו- $(n_y, p)$  בהתאמה, אז בהינתן ש- $X + Y = n$ , המשתנה המקרי המותנה  $X$  יתפלג היפרגיאומטרית עם הפרמטרים:  $D = n_x, N = n_x + n_y$  ו- $n = n$ .

כלומר:  $X \sim B(n_x, p)$  ו- $Y \sim B(n_y, p)$  והמשתנים בלתי תלויים זה בזה  $\Leftrightarrow X | X + Y = n \sim HG(n_x + n_y, n_x, n)$ .

### דוגמה:

אנליסט בנה תיק השקעות משמונה מניות, שכל אחת מהן תעלה השנה בהסתברות של 0.8, באופן בלתי תלוי במניות אחרות. הוא החליט להוסיף לתיק עוד ארבע מניות, שכל אחת מהן תעלה השנה בהסתברות של 0.8 באופן בלתי תלוי במניות אחרות, בכלל זה אלה שכבר נמצאות בתיק ההשקעות.



אם עשר מניות מהתיק יעלו השנה, מה הסיכוי ששלוש מהן יהיו מארבע המניות שנוספו לתיק?

### תשובה:

$Y \sim B(n_y = 8, P = 0.8)$  - מספר המניות המקוריות שיעלו השנה.

$X \sim B(n_x = 4, P = 0.8)$  - מספר המניות שנוספו שיעלו השנה.

$$X \sim HG(N, D, n)$$

$$X | X + Y = 10 \sim HG(12, 4, 10)$$

$$P(X = k) = \frac{\binom{D}{k} \binom{N-D}{n-k}}{\binom{N}{n}}$$

$$P(X = 3 | X + Y = 10) = \frac{\binom{4}{3} \binom{8}{7}}{\binom{12}{10}} = 0.4848$$

## שאלות:

- (1) חמישה אבירים וארבעה נסיכים מתאמנים בקליעה למטרה. כל אחד מתשעת המתאמנים מנסה לקלוע חץ אחד למטרה. הסיכוי של כל אחד מהאבירים לקלוע למטרה הוא 0.7, והסיכוי של כל אחד מהנסיכים לקלוע למטרה הוא 0.8. ניסיונות הקליעה למטרה בלתי-תלויים זה בזה.



- א. מה ההסתברות שארבעה אבירים ושלושה נסיכים יקלעו למטרה?  
 ב. אם ארבעה אבירים קלעו למטרה, מה הסיכוי ששלושה נסיכים יקלעו למטרה?  
 ג. אם שמונה מתאמנים קלעו למטרה, מה התוחלת של מספר הנסיכים שקלעו למטרה?

- (2) מזכיר הכניס ארבע תיקיות לתוך מגירות בארונית. בארונית חמש מגירות. בחירת המגירה לכל תיקייה נעשית באקראי ובאופן בלתי תלוי בתיקיות אחרות. מגירה יכולה להכיל מספר רב של תיקיות. נגדיר:



- $X$  – מספר התיקיות שהוכנסו למגירה העליונה.  
 $Y$  – מספר התיקיות שהוכנסו למגירה התחתונה.  
 א. מה ההתפלגות של  $Y$  ומה ההתפלגות של  $X$ ?  
 ב. מצאו את ההתפלגות של  $Y$  בהינתן שלמגירה העליונה והתחתונה יחד הוכנסו בדיוק שלוש תיקיות.

- (3) מטילים מטבע תקין 50 פעמים. אם  $X$  הוא מספר הפעמים שהתקבל "עץ" בכל 50 ההטלות, ו- $Y$  הוא מספר הפעמים שהתקבל "עץ" ב-20 ההטלות הראשונות.



- א. מצאו את פונקציית ההסתברות המשותפת של  $X$  ו- $Y$ .  
 ב. מצאו את פונקציית ההסתברות המותנית של  $X$  בהינתן ש:  $Y = j$ , לכל:  $j = 0, 1, \dots, 20$ . מה הקשר בין פונקציית ההסתברות שהתקבלה ובין ההתפלגות הבינומית?  
 ג. מצאו את פונקציית ההסתברות המותנית של  $Y$  בהינתן ש:  $X = i$ , לכל:  $i = 0, 1, \dots, 50$ . זהו את ההתפלגות המותנית שהתקבלה.

- (4) הוכיחו את הטענה הבאה:

אם:  $X \sim B(n_x, p)$  ו- $Y \sim B(n_y, p)$ , והמשתנים בלתי תלויים זה בזה,

אז:  $X | X + Y = n \sim HG(n_x + n_y, n_x, n)$ .

## תשובות סופיות:

- (1) א. 0.1475  
 ג. תוחלת: 3.6818
- (2) א.  $X \sim B\left(n_x = 4, P_x = \frac{1}{5}\right)$ ,  $Y \sim B\left(n_y = 4, P_y = \frac{1}{3}\right)$ .  
 ב. עין בסרטון הוידאו.
- (3) א.  $P(X = i, Y = j) = \binom{20}{j} \cdot \binom{30}{i-j} \cdot 0.5^{50}$ ,  $0 \leq j \leq 2$ ,  $j \leq i \leq j + 30$
- ב.  $P(X = i | Y = j) = \binom{30}{i-j} \cdot 0.5^{30}$ ,  $0 \leq i - j \leq 30$
- ג.  $Y | Y + W = i \sim HG(50, 20, i)$
- (4) שאלת הוכחה.

## הקשר בין התפלגות פואסונית להתפלגות מעריכית:

### רקע:

אם מספר המופעים ביחידת זמן כלשהי מתפלג פואסונית בקצב  $\lambda$ , אז הזמן החולף מתחילת מרווח הזמן עד להתרחשות המופע הראשון הוא משתנה מקרי שמתפלג מעריכית עם הפרמטר  $\lambda$  לאותה יחידת זמן.

אפשר לומר גם ההפך: אם הזמן החולף מתחילת מרווח זמן מסוים עד למופע הראשון הוא משתנה מקרי שמתפלג מעריכית עם הפרמטר  $\lambda$  ליחידת זמן, אז מספר המופעים ביחידת הזמן מתפלג פואסונית בקצב  $\lambda$ .

### דוגמה (פתרון בהקלטה):

בשדה התעופה סכיפהול שבאמסטרדם הזמן החולף בין טיסה נכנסת אחת לזו שאחריה מתפלג מעריכית עם תוחלת של חצי דקה.



- מה ההתפלגות של מספר הטיסות הנכנסות בדקה?
- מה ההתפלגות של מספר הטיסות הנכנסות בשעה?
- מה ההסתברות שבדקה כלשהי ייכנסו פחות משתי טיסות לשדה התעופה?

### תשובות:

$$E(Y) = \frac{1}{2} = \frac{1}{\lambda} \Rightarrow \lambda = 2$$

$Y \sim \exp(\lambda = 2)$  הזמן בין טיסות נכנסות בדקות.

א.  $X \sim P(\lambda = 2)$  מספר הטיסות הנכנסות בדקה.

ב.  $W \sim P(\lambda = 2 \cdot 60 = 120)$  מספר הטיסות הנכנסות בשעה.

$$P(x < 2) = P(x \leq 1) = P(x = 0) + P(x = 1) = \frac{e^{-2} \cdot 2^0}{0!} + \frac{e^{-2} \cdot 2^1}{1!}$$

$$e^{-2} + 2e^{-2} = 3e^{-2} = \frac{3}{e^2} = 0.406$$

## שאלות:

(1) מספר המיילים שגל מקבלת ביממה מתפלג פואסונית עם תוחלת של 10 מיילים.



- א. מה ההסתברות שמחר גל תקבל בדיוק 12 מיילים?  
 ב. מה תוחלת הזמן שיעבור מהרגע שבו גל תפתח את המחשב ועד שתקבל את המייל הראשון?

(2) מספר השיעולים בתיאטרון בזמן הצגה מתפלג פואסונית בקצב של שני שיעולים לדקה. משך ההצגה הוא שעתיים.



- א. מה התוחלת של מספר הדקות בהצגה שבהן יש לפחות שיעול אחד?  
 ב. מה התוחלת של מספר השיעולים בהצגה?  
 ג. מה תוחלת הזמן בין שיעול לשיעול בהצגה?

(3) הזמן בין תקלה אחת לבאה אחריה במערכת חשמלית מתפלג מעריכית עם תוחלת של 50 שעות.



- א. מהו העשירון העליון של הזמן בין תקלה אחת לבאה אחריה במערכת?  
 ב. מה ההסתברות שביממה מסוימת יהיו שתי תקלות במערכת?

(4) מספר הפניות למונית של דוד בשעות הערב הוא משתנה מקרי שמתפלג פואסונית. בממוצע דוד מקבל בשעות הערב פנייה אחת בשתי דקות. משמרת הערב שלו אורכת חמש שעות.



- א. מה ההסתברות שבמשך ארבע דקות כלשהן במשמרת יקבל דוד לפחות שתי פניות?  
 ב. אם נכנסת למונית של דוד בשעות הערב, מה ההסתברות שמרגע כניסתך יעברו לפחות חמש דקות עד שתקבל הפנייה הבאה למונית?  
 ג. דוד עובד שש משמרות בשבוע. מה ההסתברות שרק במשמרת אחת בשבוע הוא יקבל בדיוק 12 פניות בין 20:21 ל-21:30?  
 ד. נניח שחלפה דקה מאז הפנייה האחרונה למונית ועדיין לא הגיעה אף פנייה נוספת. מה ההסתברות שעד להגעת פנייה נוספת יחלפו עוד שתי דקות לפחות?

(5) הוכיחו שאם מספר המופעים ליחידת זמן מתפלג פואסונית בקצב  $\lambda$ , אז הזמן החולף מזמן 0 עד למופע הראשון הוא משתנה מקרי שמתפלג מעריכית עם פרמטר  $\lambda$ .

**תשובות סופיות:**

- |  |           |           |           |                 |     |
|--|-----------|-----------|-----------|-----------------|-----|
|  |           | ב. 0.1    | א. 0.0948 | (1)             |     |
|  | ג. 0.5    | ב. 0.240  | א. 103.7  | (2)             |     |
|  |           | ב. 0.0713 | .115.13   | (3)             |     |
|  | ד. 0.3679 | ג. 0.0200 | ב. 0.0821 | א. 0.59399      | (4) |
|  |           |           |           | (5) שאלת הוכחה. |     |