

# כימיה כללית 2



## תוכן העניינים

1. קשרים כימיים וסוגי החומרים ..... (ללא ספר)
2. חישובים סטויכיומטריים ..... 1
3. חומצות ובסיסים ..... (ללא ספר)
4. חמצון-חיזור ..... 11
5. שיווי משקל כימי ..... 23
6. שיווי משקל בתגובת שיקוע של חומר יוני ..... 33

# כימיה כללית 2

פרק 1 - קשרים כימיים וסוגי החומרים

תוכן העניינים

1. כללי ..... (ללא ספר)

## כימיה כללית 2

פרק 2 - חישובים סטויכיומטריים

תוכן העניינים

1. מעברים בין שיטות שונות של הבעת כמות החומר. .... 1
2. קביעת נוסחה אמפירית ומולקולרית של החומר. .... 3
3. חישובים סטויכיומטריים לפי משוואה כימית. .... 5
4. חישובים סטויכיומטריים בתמיסות. .... 7

## מעברים בין שיטות שונות של הבעת כמות החומר

### שאלות

- 1) א. מסה של 0.00227 מול,  $XOF_3$ , היא 0.236 גרם.  
 מהי מסה אטומית יחסית של X?  
 ב. חשבו את אחוז החמצן ב-  $UO_2(NO_3)_2$ .  
 ג. כמה מולקולות של גופרית דו חמצנית ( $SO_2$ ) יש ב-1.5 ק"ג של תרכובת זו?
- 2) א. כמה אטומי זרחן נמצאים במיליגרם אחד של  $Ni_3(PO_4)_2$ ?  
 ב. כמה אטומים בסך הכל (מימן וחמצן) ישנם ב-10 גרם מים  $H_2O$ ?  
 ג. כמה אטומי חמצן ישנם בקילוגרם אוזון  $O_3$ ?
- 3) א. חשבו את מספר אטומי החמצן (O) בגרם אחד של  $H_2SO_4$ .  
 ב. חשבו את מספר היונים ב-1.5 מול של  $Al_2(SO_4)_3$ .
- 4) מה מכיל יותר חלקיקים?  
 א. 5 גרם של  $H_2$  או 5 גרם של  $O_2$ .  
 ב. 20 גרם  $H_2$  או 20 גרם של Mg.  
 ג. מול  $CO_2$  או מול CO.
- 5) אילו קביעות נכונות:  
 א. מספר האטומים ב-18 גרם מים גדול מזה שב-44 גרם  $CO_2$ .  
 ב. מסה של 200 מולקולות  $O_2$  שווה למסה של 200 מולקולות  $N_2$ .  
 ג. מסה של שני מול  $O_2$  קטנה מזו של שני מולי פחמן.  
 ד. מספר האטומים ב-36 גרם של מים קטן מזה שב-36 גרם של  $CO_2$ .  
 ה. מספר המולקולות ב-44 גרם של  $CO_2$  קטן ממספר המולקולות ב-44 גרם של מים.
- 6) כמה גרם אטומי חנקן (N) נמצאים ב-:  
 א. 5 גרם  $NH_3$ .  
 ב. 5 גרם  $NH_4NO_3$ .

7) באיזו כמות של  $H_2SO_4$  (ב-g) נמצאת אותה כמות של אטומי חמצן, כמו ב-41 גרם של  $H_2SO_3$  ?

### תשובות סופיות

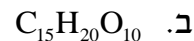
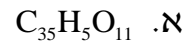
- 1) א. 31 גרם/מול. ב. 32.48% ג.  $141.09 \cdot 10^{23}$  מולקולות.  
 2) א.  $3.28 \cdot 10^{18}$  אטומי זרחן. ב.  $10.03 \cdot 10^{23}$  אטומים.  
 ג.  $376.25 \cdot 10^{23}$  אטומי חמצן.  
 3) א.  $0.246 \cdot 10^{23}$  אטומי חמצן. ב.  $45.15 \cdot 10^{23}$  יונים.  
 4) א. 5 גרם של  $H_2$ . ב. 20 גרם של  $H_2$ . ג. מספר החלקיקים שווה.  
 5) ה  
 6) א. 4.118 גרם. ב. 1.75 גרם.  
 7) 36.75 גרם.

## קביעת נוסחה אמפירית ומולקולרית של החומר

### שאלות

1) קבעו את הנוסחה האמפירית של תרכובת בעלת ההרכב (באחוזים משקליים):  
אשלגן (K): 39.7%, מנגן (Mn): 27.9% וחמצן (O): 32.5%.

2) נתון הרכב משקלי של תרכובת אורגנית קורטיזון:  
69.69% של פחמן (C), 7.83% של מימן (H), 22.21% של חמצן (O).  
ידוע שמסתה המולרית של התרכובת היא 360 גרם למול.  
מהי נוסחתה המולקולרית של קורטיזון?



3) דוגמת תרכובת במשקל 1.66 גרם, המכילה פחמן, מימן וחנקן, נשרפה בחמצן והתקבלו 4.63 גרם  $CO_2$ , 0.928 גרם  $H_2O$  ועוד תוצר שמכיל חנקן בלבד.  
מצאו את הנוסחה האמפירית של החומר.

4) אחרי תגובת 1 מול של תרכובת אורגנית עם 3 מול  $NaOBr$  התקבלו 3 מול  $NaBr$ , שני מול מים, 1 מול  $N_2$  ו-1 מול  $CO_2$ .  
קבעו את הנוסחה המולקולרית של התרכובת האורגנית.

5) בשריפה מלאה של תרכובת שמורכבת מפחמן וגופרית התקבלו 1.042 גרם של פחמן דו חמצני ( $CO_2$ ), 0.1705 גרם של מים ו-0.3031 גרם של גופרית דו-חמצנית ( $SO_2$ ).

א. מצאו את הנוסחה האמפירית של התרכובת.

ב. חשבו את האחוז המשקלי של גופרית בתרכובת.

ג. חשבו את המסה של החמצן שדרוש לתגובת השריפה שהתרחשה.

ד. בתגובה זו הגיבו  $2.37 \times 10^{-3}$  מולים של התרכובת.

1. חשבו את המסה המולרית שלה.

2. מהי הנוסחה המולקולרית של התרכובת?

- 6) דוגמה של 0.206 גרם תרכובת אורגנית נתנה, בשריפה מלאה, 0.494 גרם  $\text{CO}_2$  ו-0.1011 ג' מים.  
 קבעו את הנוסחה האמפירית והמולקולרית של התרכובת, אם המשקל המולקולרי הוא 110 י.מ.א (יחידת מסה אטומית).

**תשובות סופיות**

- |   |                                      |
|---|--------------------------------------|
|   | (1) $\text{K}_2\text{MnO}_4$         |
|   | (2) ד                                |
|   | (3) $\text{C}_5\text{H}_5\text{N}$   |
|   | (4) $\text{CH}_4\text{ON}_2$         |
| ב. 34.78% ג. 1.06 גרם. ד. 192.2 גרם/מול. ה. $\text{C}_{10}\text{S}_2$ | (5) א. $\text{C}_5\text{S}$          |
|   | (6) $\text{C}_6\text{H}_6\text{O}_2$ |

## חישובים סטויכיומטריים לפי משוואה כימית

### שאלות

1) ניתן לפרק  $N_2O_5$  גזי ל- $NO_2$  וחמצן גזי. כמה מולים של חמצן מתקבלים בפירוק מלא של 54 גרם של  $N_2O_5$  :

א. 0.125

ב. 0.250

ג. 0.500

ד. 0.750

2) נתונה התגובה  $4NH_3(g) + 5O_2(g) \rightarrow 6H_2O(l) + 4NO(g)$ .  
לכלי התגובה הוכנסו 12 מול של  $NH_3$  ו-14 מולים של חמצן.  
בחרו את התשובה הלא נכונה :

א. מספר המולים של חנקן חמצני (NO) שמתקבלים שווה למספר המולים של אמוניה ( $NH_3$ ) שהגיבה.

ב. בתום התהליך נשארים בעודף 0.8 מולים של  $NH_3$ .

ג. בתום התגובה ישנם סך הכל 26 מולים של המרכיבים (תוצרים, ואחד מהמגיבים שנשאר בעודף).

ד. בתום התהליך מתקבלים 16.8 מולים של מים.

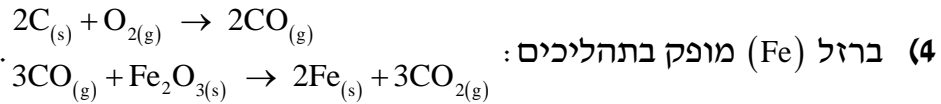
3) נתונה התגובה הבאה:  $Fe_2O_3(s) + 3CO(g) \rightarrow 2Fe(g) + 3CO_2(g)$ .  
בחרו את התשובה שבה פחמן חמצני (CO) יישאר בעודף :

א. אם לכלי התגובה נכניס 16 גרם של  $Fe_2O_3(s)$  ו-8.4 גרם פחמן חמצני.

ב. אם לכלי התגובה נכניס 16 גרם של  $Fe_2O_3(s)$ , ובסוף התגובה נקבל 5.6 גרם ברזל מוצק.

ג. אם לכלי התגובה נכניס 8.4 גרם של פחמן חמצני, ונקבל 11.2 גרם ברזל מוצק.

ד. אם לכלי התגובה נכניס 16 גרם של  $Fe_2O_3(s)$  ו-11.2 גרם פחמן חמצני.



4 ברזל (Fe) מופק בתהליכים:

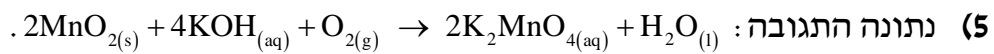
מהי המסה המרבית של ברזל שניתן להפיק מתגובה בין 36 ק"ג פחמן לבין 180 ק"ג של  $Fe_2O_3$ , וכמות מספקת של חמצן?

א. 168 ק"ג.

ב. 112 ק"ג.

ג. 126 ק"ג.

ד. 42 ק"ג.



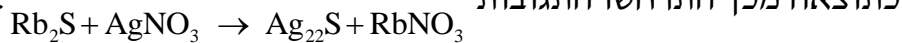
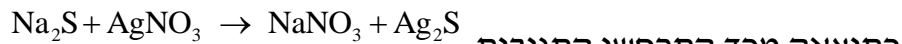
5 נתונה התגובה: לתוך כלי התגובה הוכנסו 20 גרם של מנגן חמצני,  $2MnO_2$ , 40 גרם של אשלגן הידרוקסידי, KOH, ו-10 גרם של חמצן.

א. כמה גרם של  $K_2MnO_4$  ושל מים מתקבלים בתגובה זו?

ב. אלו חומרים נשארו בעודף ובאיזו כמות?

6 נתונה תערובת של  $Rb_2S$  ו- $Na_2S$  מסתה שווה ל-0.2380 גרם.

לתערובת נוספה כמות מספקת של כסף חנקתי ( $AgNO_3$ ).



כתוצאה מכך התרחשו התגובות המסה הכוללת של  $Ag_2S$  שהתקבלה היתה 0.4302 גרם.

חשבו את מסתם של  $Rb_2S$  ו- $Na_2S$  בתערובת.

### תשובות סופיות

1) ב

2) ג

3) ד

4) ב

5) א.  $H_2O$  4.14 גרם;  $K_2MnO_4$  45.31 גרם. ב. KOH,  $O_2$

6)  $Na_2S$ : 0.068 גרם;  $Rb_2S$ : 0.17 גרם.

## חישובים סטויכיומטריים בתמיסות

### שאלות

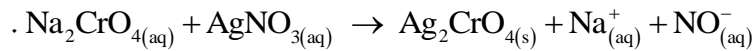
- (1)** נתונות שלוש תמיסות: (1) 0.5 ליטר של NaCl, 0.45 M (ריכוז מולרי).  
 (2) 1.5 ליטר של NaOH, 0.15 M, (3) 2 ליטר של NaCl, 0.45 M.  
 מהו המשפט הלא נכון:
- תמיסות (1) ו-(2) מכילות אותו מספר המולים של המומס.
  - תמיסה (2) היא המהולה ביותר.
  - תמיסה (3) היא המרוכזת ביותר.
  - תמיסה (3) מכילה את המספר הגדול ביותר של מולי המומס.
  - בערבוב כל נפח שהוא של תמיסה (3) עם תמיסה (1), ריכוזה של התמיסה הסופית יהיה 0.45 M.
- (2)** ערבבו 2.0 מ"ל של אתנול נוזלי ( $C_2H_5OH$ ), בעל צפיפות 0.70 גרם למ"ל, עם 8.0 מ"ל מים. ריכוז האתנול בתמיסה שהתקבלה הוא:
- 30 M
  - 20 M
  - 15 M
  - 3.0 M
- (3)** נתונה תמיסת NaBr בעלת ריכוז 0.120 מולר. ב-200 מ"ל של תמיסה זו יש (בחרו את התשובה הנכונה):
- אותה מסה של המומס, כמו ב-400 מ"ל תמיסת NaBr בריכוז 0.240 M.
  - אותו מספר המולים, כמו ב-400 מ"ל תמיסת NaCl בריכוז 0.0600 M.
  - אותה מסה של המומס, כמו ב-400 מ"ל תמיסת NaBr בריכוז 0.0600 M.
  - אותה מסה כמו ב-400 מ"ל תמיסת NaCl בריכוז 0.0600 M.
  - תשובות ב ו-ג נכונות.
  - תשובות ב ו-א נכונות.

- 4) חשבו את הריכוז המוללי (m) של תמיסת חומצה אצטית,  $\text{CH}_3\text{COOH}$ , בעלת ריכוז 2.03 M. צפיפות התמיסה שווה ל-1.017 g/ml.
- א. 2.03 m  
ב. 2.52 m  
ג. 2.27 m  
ד. 1.82 m
- 5) תמיסה של מים ואתנול ( $\text{C}_2\text{H}_5\text{OH}$ ) מכילה 80 גרם של אתנול ל-300 גרם תמיסה. השבר המולי של אתנול בתמיסה שווה ל:
- א. 0.143  
ב. 0.124  
ג. 0.104  
ד. 0.364  
ה. 0.267
- 6) ל-50 מ"ל של תמיסת מלח בריכוז משקלי 25% וצפיפות 1.30 גרם לסמ"ק הוסיפו 20 מ"ל תמיסת מלח בריכוז משקלי 34% וצפיפות 1.40 גרם לסמ"ק. חשבו את האחוז המשקלי של המלח בתמיסה שמתקבלת.
- 7) נתונה תמיסה של  $\text{HNO}_3$  בריכוז 16M, שצפיפותה שווה ל-1.42 גרם למ"ל. האחוז המשקלי של תמיסה זו שווה ל:
- א. ~ 70%  
ב. ~ 48%  
ג. ~ 41.5%  
ד. ~ 36%
- 8) ל-50 מ"ל תמיסה מימית של  $\text{Ca}(\text{OH})_2$  בריכוז 0.3M הוסיפו 25 מ"ל מים. מהתמיסה שהתקבלה נלקחה דגימה בנפח 10 מ"ל. מהו הריכוז המולרי של כל היונים בדגימה?
- א. 0.6 M  
ב. 0.4 M  
ג. 0.006 M  
ד. 0.2 M

- 9 א. חשבו את נפח תמיסת  $\text{HNO}_3$  בריכוז 6 M, שדרוש עבור הכנת 50 מ"ל תמיסת  $\text{HNO}_3$ , בריכוז 0.5 M.  
 ב. כמה מ"ל מים יש להוסיף ל-150.0 מ"ל תמיסת סוכר בריכוז 1.2 M, כדי שריכוזה יגיע ל-0.80 M?
- 10 ל-25.0 מ"ל תמיסת  $\text{Na}_2\text{S}_{(\text{aq})}$ , בעלת ריכוז 0.120 M, הוסיפו 100.0 מ"ל מים. ריכוז יוני נתרן לאחר ההוספה יהיה שווה ל:  
 א. 0.03 M  
 ב. 0.06 M  
 ג. 0.02 M  
 ד. 0.048 M
- 11 נתונה תמיסת  $\text{HClO}_4$  בעלת אחוז משקלי 35% וצפיפות 1.251 גרם/מ"ל.  
 א. חשבו את מולריות התמיסה.  
 ב. כמה מול  $\text{HClO}_4$  מומסים ב-250 מ"ל של תמיסה זו?  
 ג. כמה מ"ל של תמיסה זו דרושים להכנת 150 מ"ל תמיסה בריכוז 2 M?  
 ד. איזה נפח של תמיסה שהוכנה בסעיף ג מכיל 0.75 מול  $\text{HClO}_4$ ?
- 12 לתוך 100 מ"ל תמיסה מימית, בה ריכוז יוני  $\text{Fe}^{+3}_{(\text{aq})}$  שווה ל-0.1 M, הכניסו אבקת ברזל מוצק במסה של 0.40 גרם. כתוצאה מכך, חלה תגובה:  

$$\text{Fe}_{(\text{s})} + 2\text{Fe}^{+3}_{(\text{aq})} \rightarrow 3\text{Fe}^{+2}_{(\text{aq})}$$
 ריכוז יוני  $\text{Fe}^{+2}_{(\text{aq})}$  בתום התגובה שווה ל:  
 א. 0.1 M  
 ב. 0.15 M  
 ג. 0.3 M  
 ד. 0.0667 M
- 13 כמה גרם של כסף מתכתי, Ag, דרושים על מנת להגיב עד הסוף עם 35.5 מ"ל תמיסה של יוני  $\text{In}^{3+}$  בריכוז 0.205 M?  
 משוואת התהליך היא:  $3\text{Ag}_{(\text{s})} + \text{In}^{3+}_{(\text{aq})} \rightarrow 3\text{Ag}^{+}_{(\text{aq})} + \text{In}_{(\text{s})}$   
 א. 1.03 g  
 ב.  $2.35 \cdot 10^3$  g  
 ג. 2.35 g  
 ד. 0.262 g

14) כאשר מערבבים תמיסה מימית של  $\text{Na}_2\text{CrO}_4$  עם תמיסה מימית של  $\text{AgNO}_3$ , נוצר משקע לפי הניסוח



20.0 מ"ל תמיסת  $\text{Na}_2\text{CrO}_4$  בריכוז לא ידוע הגיבו בשלמות עם 30.0 מ"ל תמיסת  $\text{AgNO}_3$  בריכוז 0.0080 M. ריכוזה של תמיסת  $\text{Na}_2\text{CrO}_4$  שווה ל:

א. 0.0240 M

ב. 0.0120 M

ג. 0.0060 M

ד. 0.0080 M

### תשובות סופיות

(1) ג

(2) ד

(3) ה

(4) ג

(5) ב

(6) 27.7%

(7) א

(8) א

(9) א. 4.17 מ"ל. ב. 75 מ"ל.

(10) ד

(11) א. 4.35 M. ב. 109.38 גרם. ג. 69 מ"ל. ד. 0.375 ליטר.

(12) ב

(13) ג

(14) ג

## כימיה כללית 2

פרק 3 - חומצות ובסיסים

תוכן העניינים

1. כללי ..... (ללא ספר)

## כימיה כללית 2

פרק 4 - חמצון-חיזור

תוכן העניינים

- 11 ..... 1. תגובת חמצון-חיזור - מושגי יסוד
- 15 ..... 2. יישום של תהליכי תמזור - תאים חשמליים

## תגובת חמצון-חיזור – מושגי יסוד

### שאלות

1) נתונה שרשרת תגובות:  $\text{H}_2\text{SO}_4 \xrightarrow{A} \text{H}_2\text{SO}_3 \xrightarrow{B} \text{H}_2\text{S}_2\text{O}_3 \xrightarrow{C} \text{H}_2\text{S}$   
 מהי הקביעה הנכונה:

- א.  $A$ ,  $B$  ו- $C$  הם חומרים מחמצנים.
- ב.  $A$ ,  $B$  ו- $C$  הם חומרים מחזרים.
- ג.  $A$  ו- $B$  הם חומרים מחזרים, אך  $C$  חומר מחמצן.
- ד.  $A$  ו- $B$  הם חומרים מחמצנים, אך  $C$  חומר מחזר.

2) נתונים ההיגדים שמתייחסים לתגובה  $3\text{N}_2\text{O}_3 \rightarrow \text{N}_2\text{O}_5 + 4\text{NO}$

1. 0.2 מול מחזר מסרו 0.4 מול אלקטרונים.
  2. 0.2 מול מחזר מגיבים עם 0.2 מולי מחמצן.
  3. בתהליך זה  $\text{N}_2\text{O}_3$  הוא מחמצן ומחזר.
  4. 0.1 מול מחמצן קיבלו 0.2 מול אלקטרונים.
  5. אף אחד מההיגדים הוא לא נכון.
- אילו מההיגדים נכונים:

- א. 1 ו-4.
- ב. 2 ו-3.
- ג. 5 בלבד.
- ד. 3 ו-4.
- ה. 3 בלבד.

3) נתונה תגובת חמצון-חיזור:  $2\text{NO}_{(g)} + 2\text{H}_2_{(g)} \rightarrow 2\text{H}_2\text{O}_{(g)} + \text{N}_{2(g)}$   
 מספר האלקטרונים שעוברים ממחזר למחמצן בתגובה זו הוא:

- א. 1
- ב. 2
- ג. 3
- ד. 4

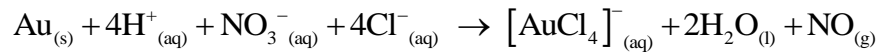
4) מספר החמצון של היסוד vanadium במינרל  $\text{Rb}_4\text{Na}[\text{HV}_{10}\text{O}_{28}]$  הוא:

- א. -6
- ב. +8
- ג. +3
- ד. +5

5) בריאקציה מסוימת היון  $\text{SO}_3^{2-}$  משתנה והופך ליון  $\text{S}_2\text{O}_4^{2-}$ . לפיכך, ניתן לומר ש:

- א. אטומי הגופרית עוברים חמצון.
- ב. אטומי הגופרית הם המחמצנים.
- ג. אטומי החמצן עוברים חיזור.
- ד. שינוי זה איננו חלק מתהליך חמצון חיזור.

6) זהב מגיב עם תערובת של חומצה כלורית וחומצה חנקתית בהתאם למשוואה:



מיהו המחמצן בריאקציה זו?

- א. Au
- ב.  $\text{H}^+$
- ג.  $\text{NO}_3^-$
- ד.  $\text{Cl}^-$

7) סמנו את התשובה שבה מספר החמצון של היסוד המסומן בקו ב אינו נכון:

- א.  $\text{MnO}_2$ , 4+
- ב.  $\text{SO}_3^{2-}$ , 4+
- ג.  $\text{ClO}_3^-$ , 7+
- ד.  $\text{Cr}_2\text{O}_3$ , 3+

8) איזו מבין התגובות הבאות איננה תגובת חמצון-חיזור?

- א.  $\text{MnO}_4^- + 5\text{Fe}^{2+} + 8\text{H}^+ \rightarrow 5\text{Fe}^{3+} + \text{Mn}^{2+} + 4\text{H}_2\text{O}$
- ב.  $\text{Au} + 4\text{H}^+ + \text{NO}_3^- + 4\text{Cl}^- \rightarrow [\text{AuCl}_4]^- + 2\text{H}_2\text{O} + \text{NO}$
- ג.  $6\text{HF} + \text{Al}(\text{OH})_3 + 3\text{NaOH} \rightarrow \text{Na}_3\text{AlF}_6 + 6\text{H}_2\text{O}$
- ד.  $2\text{H}_2 + \text{O}_2 \rightarrow 2\text{H}_2\text{O}$

9) ל-50 מ"ל תמיסת  $\text{CuBr}_2$ , בריכוז 0.4 M, הזרימו 2.5 ליטר כלור גזי בתנאי החדר.

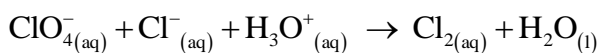
- א. רשמו ניסוח התהליך.
- ב. חשבו את מס' מולי האלקטרונים שהשתתפו בתהליך.
- ג. 1. לתמיסה שהתקבלה נוספה תמיסת  $\text{AgNO}_3$ . מהו המשקע שיתקבל?  
רשמו ניסוח התהליך.  
2. איזה נפח תמיסת  $\text{AgNO}_3$  0.1 M יידרש לשיקוע מלא? פרטו.  
ד. לאחר סינון המשקע, הוסף מגנזיום לתמיסה.  
1. רשמו ניסוח לתהליך שהתרחש.  
2. מהו מספר מולי האלקטרונים שהשתתפו בתהליך הנ"ל?  
(הניחו שכל החומרים הגיבו עד הסוף)

10) להלן שני ניסויים:

- בניסוי 1 הוסיפו גז כלור לתמיסת נחושת ברומית ( $\text{CuBr}_2$ ) בריכוז 1M, וכתוצאה מכך התרחשה תגובה.
  - בניסוי 2 הוסיפו אלומיניום ( $\text{Al}_{(s)}$ ) לתמיסת נחושת ברומית ( $\text{CuBr}_2$ ) בריכוז 1M, וכתוצאה מכך והתרחשה תגובה.
- א. עבור כל ניסוי:
1. ציינו מהו המחמצן ומהו המחזור.
  2. נסחו ואזנו את תגובת חמצון-חיזור.
- להלן שני ניסויים נוספים:

- בניסוי 3 הוסיפו נחושת ( $\text{Cu}_{(s)}$ ) לתמיסת  $\text{AgNO}_3$  בריכוז 1M והתרחשה התגובה  $\text{Cu}_{(s)} + \text{Ag}^+_{(aq)} \rightarrow \text{Cu}^{+2}_{(aq)} + \text{Ag}_{(s)}$ .
  - בניסוי 4 הוסיפו אלומיניום ( $\text{Al}_{(s)}$ ) לתמיסת  $\text{KCl}$  בריכוז 1M, ולא התרחשה תגובה.
- ב. 1. דרגו את היסודות Cu, Al, K, Ag על פי נטייתם לחזור.
  2. האם תתרחש תגובה בין תמיסת  $\text{AgNO}_3$  ובין  $\text{Al}_{(s)}$ ? נמקו.

11) נתון הניסוח הבלתי-מאוזן הבא:



- א. רשמו ניסוח מאוזן וקבע את המחמצן ואת המחזור.
- ב. כמה אלקטרונים עוברים בתהליך שבו נוצרים 5 ליטר כלור בתנאי STP?

12) אזנו את המשוואה הבאה, ציינו את המחמצן והמחזור, וקבעו ואת מספר מולי האלקטרונים שמתתפס בתגובה



## תשובות סופיות

(1) ב

(2) ד

(3) ד

(4) ד

(5) ב

(6) ג

(7) ג

(8) ג

(9) א.  $2\text{Br}^-_{(\text{aq})} + \text{Cl}_{2(\text{g})} \rightarrow \text{Br}_{2(\text{l})} + 2\text{Cl}^-_{(\text{aq})}$  ב. 0.04 מול.

ג. 1. AgCl 2. 0.4 ליטר.

ד. 1.  $\text{Cu}^{2+}_{(\text{aq})} + \text{Mg}_{(\text{s})} \rightarrow \text{Cu}_{(\text{s})} + \text{Mg}^{2+}_{(\text{aq})}$  2. 0.04 מול.(10) א. 1.  $\text{Br}^-$  מחזור,  $\text{Cl}_2$  מחמצן, Al מחזור,  $\text{Cu}^{2+}$  מחמצן.ב. 1.  $\text{K} > \text{Al} > \text{Cu} > \text{Ag}$  2. כן.

(11) 0.39 מול.

(12) 2 מול.

## יישום של תהליכי חִמְזוֹר – תאים חשמליים

### שאלות

1) כמה זמן יש להפעיל תא אלקטרוליטי, בכדי לקבל ציפוי כסף מתכתי, שמסתו 0.8 גרם, אם מועבר זרם של 2.5 אמפר בתוך תמיסה מימית של  $\text{AgNO}_3$  ?

א. פחות משתי דקות.

ב. 9.54 דקות.

ג. 4.76 דקות.

ד. 4.76 שעות.

2) נתונים:  $E^0(\text{I}_2/\text{I}^-) = 0.54 \text{ V}$ ,  $E^0(\text{Br}_2/\text{Br}^-) = 1.09 \text{ V}$

$E^0(\text{Ag}^+/\text{Ag}) = 0.8 \text{ V}$ ,  $E^0(\text{Pb}^{2+}/\text{Pb}) = -0.13 \text{ V}$ ,  $E^0(\text{Zn}^{2+}/\text{Zn}) = -0.76 \text{ V}$

בהתבסס על טבלת פוטנציאלי החיזור הסטנדרטיים, מי מהחומרים המופיעים

להלן יכולים לחזור  $\text{I}_{2(s)}$  ל-  $\text{I}^-_{(aq)}$  ?

א.  $\text{Br}^-_{(aq)}$

ב.  $\text{Ag}_{(s)}$

ג.  $\text{Pb}_{(s)}$

ד.  $\text{Zn}^{2+}_{(aq)}$

3) חשבו את הפרש הפוטנציאליים  $\Delta\epsilon$  ב-  $25^\circ\text{C}$  של תא אלקטרוכימי, המורכב

מחצי תא אבץ, שבו יוני אבץ בריכוז 0.01M, וחצי תא נוסף, שבו  $\text{Br}_2$  נוזלי

ובתוכו יוני  $\text{Br}^-$  בריכוז  $10^{-4} \text{ M}$ .

נתון כי  $E^0(\text{Br}_2/\text{Br}^-) = 1.09 \text{ V}$ ,  $E^0(\text{Zn}^{2+}/\text{Zn}) = -0.76 \text{ V}$

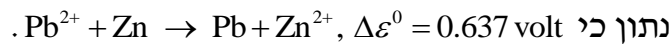
א. 1.78V

ב. 0.13V

ג. 2.145V

ד. 1.72V

4) תא אלקטרוכימי מורכב מאלקטרודת אבץ ואלקטרודת עופרת. סמנו את המשפט שאינו נכון.



א. הקתודה היא אלקטרודת האבץ.

ב. הריאקציה הספונטאנית מתרחשת בכיוון הרשום.

ג. אלקטרודת העופרת טעונה במטען חיובי.

ד. האבץ עובר חמצון בתהליך הזה.

5) בהתבסס על פוטנציאלי החיזור הסטנדרטיים שלהלן, סמנו את המשפט הנכון.

$$E^0(\text{Mg}^{2+}/\text{Mg}) = -2.36 \text{ V}, E^0(\text{Cu}^{2+}/\text{Cu}) = 0.34 \text{ V}$$

$$E^0(\text{Ag}^+/\text{Ag}) = 0.8 \text{ V}, E^0(\text{Fe}^{2+}/\text{Fe}) = -0.44 \text{ V}, E^0(\text{Zn}^{2+}/\text{Zn}) = -0.76 \text{ V}$$

א. מגנזיום מתכתי (Mg) לא מגיב עם יוני אבץ ( $\text{Zn}^{2+}$ ) בתמיסה מימית.

ב. נחושת מתכתית (Cu) מגיבה עם יוני אבץ ( $\text{Zn}^{2+}$ ) בתמיסה מימית.

ג. ברזל מתכתי (Fe) מגיב עם יוני אבץ ( $\text{Zn}^{2+}$ ) בתמיסה מימית.

ד. ברזל מתכתי (Fe) מגיב עם יוני מימן ( $\text{H}^+$ ) בתמיסה מימית.

6) חשבו את הפוטנציאל הסטנדרטי  $\varepsilon^0$  עבור חצי התא  $\text{Fe}^{3+}_{(\text{aq})} + 3\text{e}^- \rightarrow \text{Fe}_{(\text{s})}$ .

השתמשו בפוטנציאלי החיזור הסטנדרטיים של  $\text{Fe}^{2+}/\text{Fe}$  ושל  $\text{Fe}^{3+}/\text{Fe}^{2+}$ .

$$E^0(\text{Fe}^{2+}/\text{Fe}) = -0.44 \text{ V}, E^0(\text{Fe}^{3+}/\text{Fe}^{2+}) = 0.77 \text{ V}$$

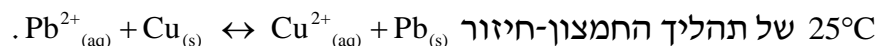
א. 0.33 volt

ב. -0.33 volt

ג. -0.037 volt

ד. 1.21 volt

7) בהתבסס על פוטנציאלי החיזור הסטנדרטיים, מהו קבוע שיווי המשקל ב-



$$E^0(\text{Cu}^{2+}/\text{Cu}) = 0.34 \text{ V}, E^0(\text{Pb}^{2+}/\text{Pb}) = -0.13 \text{ V}$$

א.  $1.17 \cdot 10^{-16}$

ב. 0.343

ג.  $1.31 \cdot 10^{-8}$

ד.  $1.43 \cdot 10^{-7}$

8) תא ריכוזי של מימן משמש ככלי למדידת pH. מה יהיה ה-pH באנודה בתא המפורט להלן? מתח התא שווה ל-0.122 Volt ב-25°C, ונתון כי

$$\text{Pt, H}_2 (1 \text{ atm}) / \text{H}^+ (\text{pH}=? ) \parallel \text{H}^+ (1\text{M}) / \text{H}_2 (1 \text{ atm}), \text{Pt}$$

א. pH = 1.03

ב. pH = 4.75

ג. pH = 2.068

ד. pH = 4.12

9) נתון התא האלקטרוכימי  $\text{Fe}^{2+} (1\text{M}) / \text{Fe}^{3+} (1\text{M}) \parallel \text{Cu}^{2+} (1\text{M}) / \text{Cu}$  איזו מבין הפעולות הבאות תגרום לעלייה הגדולה ביותר במתח התא?

א. הורדת ריכוז יוני הנחושת פי 2.

ב. הורדת ריכוז יוני  $\text{Fe}^{2+}$  פי 2.

ג. הכפלת ריכוז יוני הנחושת (פי 2).

ד. הכפלת ריכוז יוני  $\text{Fe}^{2+}$  (פי 2).

10) נתון תא אלקטרוכימי שבו האנודה היא  $\text{Zn} / \text{Zn}^{+2} (1.0\text{M})$  ( $\mathcal{E}_{\text{Zn}^{+2}(1.0\text{M})/\text{Zn}}^0 = -0.76 \text{ V}$ ). מהו צריך להיות חצי התא של הקטודה, כדי שהפוטנציאל של התא כולו יהיה הגבוה ביותר?

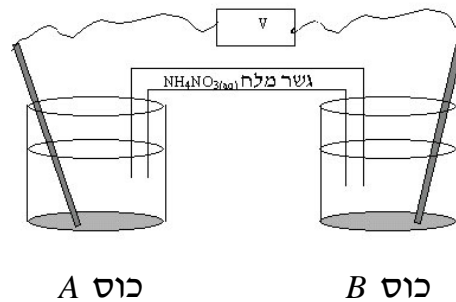
א.  $\mathcal{E}_{\text{Mg}^{+2}(1.0\text{M})/\text{Mg}}^0 = -2.36 \text{ V}$

ב.  $\mathcal{E}_{\text{Cd}^{+2}(1.0\text{M})/\text{Cd}}^0 = -0.40 \text{ V}$

ג.  $\mathcal{E}_{\text{Cu}^{+2}(1.0\text{M})/\text{Cu}}^0 = -0.34 \text{ V}$

ד.  $\mathcal{E}_{\text{Pt}^{+2}(1.0\text{M})/\text{Pt}}^0 = -1.20 \text{ V}$

11 נתון תא אלקטרוכימי :



כוס A (האנודה) מכילה תמיסת  $Mg(NO_3)_2$  (קל תמס) ואלקטרודת מגנזיום במשקל 12.30 גרם. כוס B (הקטודה) מכילה תמיסת  $Cu(NO_3)_2$  (קל תמס) ואלקטרודת נחושת במשקל 12.30 גרם. התא פעל במשך 15 דקות ולאחר מכן נשקלו האלקטרודות. מהו המשפט **נכון** :

- המסה של שתי האלקטרודות יחד שווה ל- 24.60 גרם.
- המסה של שתי האלקטרודות יחד קטנה מ- 24.60 גרם.
- המסה של שתי האלקטרודות יחד גדולה מ- 24.60 גרם.
- אי אפשר לקבוע כי חסרים נתונים.

12 עבור תגובת חמצון-חיזור  $Ni_{(s)} + Sn^{+2}_{(aq)} \rightleftharpoons Ni^{+2}_{(aq)} + Sn_{(s)}$ , ערכו של קבוע שיווי

המשקל (לפי הריכוזים) בטמפרטורת החדר שווה ל-  $5.00 \cdot 10^3$ .

נתון כי  $\epsilon^0 = -0.140 V$   $Sn^{+2} + 2e \rightleftharpoons Sn$

א. חשבו את פוטנציאל החיזור הסטנדרטי עבור יוני ניקל.

נתון התא  $Ni_{(s)} / Ni^{+2}_{(aq)} (1.00 \cdot 10^{-3} M) // Sn^{+2} (9.00 \cdot 10^{-2} M) / Sn$

- חשבו את המתח שנמדד ברגע חיבור התא.
- חצי תא סטנדרטי של ניקל (Ni) חובר לחצי תא סטנדרטי של מימן. עקב חיבור התא נמדד מתח חיובי.

(חצי תא מימן:  $2H^+_{(aq)} + 2e \rightleftharpoons H_{2(g)}$   $\epsilon^0 = 0.00 V$ )

- איזה מתח נמדד ברגע חיבור התא?
- האם ה- pH בתא המימן עלה, ירד או נשאר קבוע? נמקו.
- רשמו את התגובה המאוזנת שמתרחשת עקב חיבור שני חצאי-התאים.
- איזה יון עבר חיזור ומהו המחזור בתגובה זו?

13) נתונות שתי מחציות התגובה ופוטנציאלי החיזור התקניים שלהן:

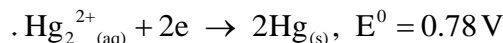
חצי תגובה	$E^0$ (V)
$Fe^{3+}_{(aq)} + e \rightarrow Fe^{2+}_{(aq)}$	0.77
$MnO_4^{-}_{(aq)} + 8H^{+}_{(aq)} + 5e \rightarrow Mn^{2+}_{(aq)} + 4H_2O_{(l)}$	1.49

- א. כתבו את התגובה המאוזנת שמתרחשת.  
 ב. מהו מספר מולי האלקטרונים העוברים בתגובה, כאשר 2.5 מול של  $MnO_4^{-}_{(aq)}$  מגיב?  
 ג. כתבו תיאור סכמתי של התא האלקטרוכימי, שניתן לבנות על פי התגובה הזאת.  
 ד. חשבו את מתח התא בתנאים תקינים.  
 ה. חשבו את  $K_c$ .  
 ו. מה יהיה מתח התא כאשר הריכוזים של מרכיבי התא הם:

$$[Fe^{2+}_{(aq)}] = [Fe^{3+}_{(aq)}] = 0.6 M, [Mn^{2+}_{(aq)}] = 0.2 M,$$

$$[MnO_4^{-}_{(aq)}] = 0.1 M, [H^{+}_{(aq)}] = 1 M$$

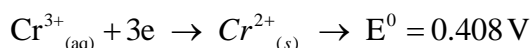
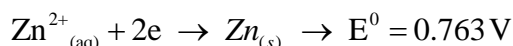
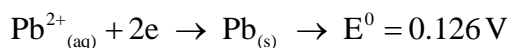
14) נתונים שני חצאי תאים  $Co^{2+}_{(aq)} + 2e \rightarrow Co_{(s)}$   $E^0 = 0.28 V$ ,



כאשר יוצרים מהם תא אלקטרוכימי:

- א. כיוון זרימת האלקטרונים הוא מחצי התא של הקובלט לחצי התא של הכספית.  
 ב. כיוון זרימת האלקטרונים הוא מחצי התא של הכספית לחצי התא של הקובלט.  
 ג. כספית היא אנודה.  
 ד. כיוון זרימת האניונים בגשר המלח הוא לכיוון חצי התא של הכספית.

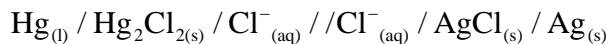
15) נתונות משוואות מחציות התא הבאות:



החומר המחזר הטוב ביותר הוא:

- א. Zn  
 ב. Pb  
 ג.  $Cr^{2+}$   
 ד.  $Cr^{3+}$

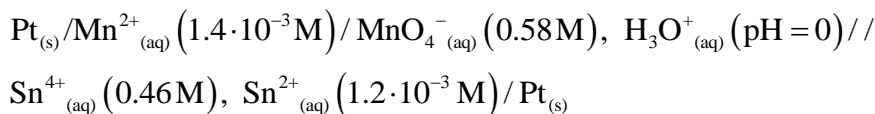
16) כתבו את מחציות התגובה ואת המשוואה המאוזנת לתגובת התא הבא :



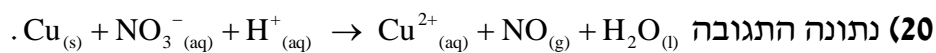
17) סטודנטית קיבלה מחצית-תא תקני  $\text{Fe}^{2+}/\text{Fe}$  ומחצית-תא נוספת המכילה מתכת לא ידועה  $M$  טבולה בתמיסת  $\text{MNO}_3$  בריכוז  $1M$ . כאשר חיברו את שתי מחציות התא בטמפי' החדר, התא השלם פעל כתא גלווני בעל מתח תא של  $1.24V$ . הניחו לתגובה להימשך כל הלילה ואז שקלו את האלקטרודות. נמצא שאלקטרודת הברזל קלה יותר ואלקטרודת המתכת הלא ידועה כבדה יותר. מהו הפוטנציאל התקני של הצמד הלא ידוע  $M^+/M$ , אם נתון כי  $E^0(\text{Fe}^{2+}/\text{Fe}) = -0.44V$ .

18) זרם של  $350\text{mA}$ , שהועבר בתמיסה מימית של מנגן חנקתי במשך  $13.7$  שעות, גרם לשיקוע של  $4.9$  גרם של מנגן. מהו מספר החמצון של מנגן במנגן חנקתי?

19) לתא הבא פוטנציאל של  $1.45V$  :



חשבו את קבוע שיווי המשקל עבור התגובה שמתרחשת בתא.

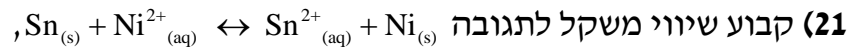


א. אזנו את המשוואה בעזרת חצאי התגובות.

התגובה הנ"ל מתרחשת בתא. המתח שנמדד הוא:  $E^0 = 0.62V$ .

ב. היעזרו בנתוני הטבלה הבאה וחשבו את פוטנציאל החיזור התקני עבור מחצית התגובה של  $\text{NO}_3^-$ .

חצי תגובה	$E^0 (V)$
$\text{Cu}^{2+}_{(aq)} + 2e \leftrightarrow \text{Cu}_{(s)}$	0.34
$\text{NO}_3^-_{(aq)} + 4\text{H}^+_{(aq)} + 3e \leftrightarrow \text{NO}_{(g)} + 2\text{H}_2\text{O}_{(l)}$	?



הוא  $2 \cdot 10^{-4}$  (ב- 298 K).

- א. האם פוטנציאל החיזור התקני של  $\text{Ni}^{2+}_{(aq)}$  גבוה או נמוך מזה של יוני  $\text{Sn}^{2+}_{(aq)}$ ? נמקו ללא חישובים.
- ב. בְּנו את התא מהחומרים המופיעים בניסוח התגובה, והתא סיפק אנרגיה. רשמו בצורה סכמתית את המבנה של תא זה.
- ג. כאשר התא הגיע לשיווי משקל נלקח מדגם מתמיסת  $\text{Sn}^{2+}_{(aq)}$ , והוכנסה לתוכה אלקטרודת בדיל. פוטנציאל האלקטרודה נמדד לעומת אלקטרודה תקנית של מימן, ונמצא שהוא  $-0.26 \text{ V}$ .
- מהו ריכוז יוני הבדיל בתום פעולת התא? נתון:  $E^0(\text{Sn}^{2+}/\text{Sn}) = -0.14 \text{ V}$ .

## תשובות סופיות

(1) ג

(2) ג

(3) ג

(4) א

(5) ד

(6) ג

(7) א

(8) ג

(9) ד

(10) ד

(11) ג

(12) א.  $-0.249\text{ V}$  ב.  $0.167\text{ V}$  ג.  $0.249\text{ V}$  ד. עלה.3.  $2\text{H}^+_{(\text{aq})} + \text{Ni}_{(\text{s})} \rightarrow \text{H}_{2(\text{g})} + \text{Ni}^{2+}_{(\text{aq})}$  4. Ni מחזור,  $\text{H}^+$  עובר חיזור.(13) א.  $5\text{Fe}^{2+}_{(\text{aq})} + \text{MnO}_4^-_{(\text{aq})} + 8\text{H}^+_{(\text{aq})} \rightarrow \text{Mn}^{2+}_{(\text{aq})} + 4\text{H}_2\text{O}_{(\text{l})} + 5\text{Fe}^{3+}_{(\text{aq})}$ ב. 12.5 מול. ג.  $\text{Pt}_{(\text{s})} / \text{Fe}^{2+}_{(\text{aq})}, \text{Fe}^{3+}_{(\text{aq})} // \text{MnO}_4^-_{(\text{aq})}, \text{Mn}^{2+}_{(\text{aq})}, \text{H}^+_{(\text{aq})}$ ד.  $0.72\text{ V}$  ה.  $1.04 \cdot 10^{61}$  ו.  $0.71\text{ V}$ 

(14) א

(15) ב

(16)  $2\text{Hg}_{(\text{l})} + 2\text{AgCl}_{(\text{s})} \rightarrow 2\text{Ag}_{(\text{s})} + \text{Hg}_2\text{Cl}_{2(\text{s})}$ (17)  $0.8\text{ V}$ 

(18) +2

(19)  $1.97 \cdot 10^{34}$ (20) א.  $\text{NO}_{3}^-_{(\text{aq})} + 1.5\text{Cu}_{(\text{s})} + 4\text{H}^+_{(\text{aq})} \rightarrow \text{NO}_{(\text{aq})} + 1.5\text{Cu}^{2+}_{(\text{aq})} + 2\text{H}_2\text{O}_{(\text{l})}$  ב.  $0.96\text{ V}$ (21) א. נמוך. ב.  $8.55 \cdot 10^{-5}\text{ M}$

## כימיה כללית 2

פרק 5 - שיווי משקל כימי

תוכן העניינים

1. כללי ..... (ללא ספר) 23
2. שיווי משקל כימי ..... 23

## שיווי משקל כימי

## שאלות

1) תערובת המכילה  $\text{HCl}_{(g)}$ , בריכוז  $0.075 \text{ M}$  ו-  $\text{O}_{2(g)}$  בריכוז  $0.033 \text{ M}$ , חוממה לטמפרטורה של  $480^\circ\text{C}$  והגיעה לשיווי-משקל לפי המשוואה



בשיווי משקל, ריכוז הגז כלור ( $\text{Cl}_2$ ) הוא  $0.03 \text{ M}$ .

מהו ערכו של קבוע שיווי המשקל  $K_c$ ?

א.  $1.1 \cdot 10^{-3}$

ב. 889

ג. 0.13

ד. 480

2) נתונה ריאקציה בשיווי משקל:  $\text{CO}_{2(g)} + \text{C}_{(s)} \leftrightarrow 2\text{CO}_{(g)}$   $\Delta H^0 = 173 \frac{\text{kJ}}{\text{mol}}$

בחרו את הפעולה שתביא לעלייה בכמות הגז  $\text{CO}_2$  בשיווי משקל:

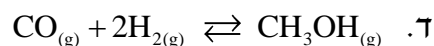
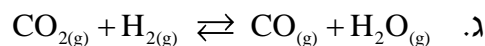
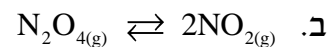
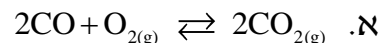
א. דחיסת המערכת והורדת הטמפרטורה.

ב. הוספת פחמן מוצק תוך כדי חימום.

ג. הורדת הלחץ תוך כדי הגדלת הנפח.

ד. הוספה של  $\text{Ne}_{(g)}$  והעלאת הלחץ הכללי.

3) באיזו תגובה הגדלת נפח הכלי מסיטה את התגובה לכיוון התוצרים?



4) נתונה תגובת שיווי משקל:  $N_{2(g)} + O_{2(g)} \rightleftharpoons 2NO_{(g)}$   $\Delta H^0 = 180.8 \text{ kJ}$   
 בטמפרטורה של 298 K ערכו של קבוע שיווי המשקל הוא 0.01, וזמן השגת שיווי משקל בטמפרטורה זו הוא 452 שניות. נבצע את התגובה בכלי שנפחו 5.0 ליטר ובטמפרטורה של 250 K.

מהו המשפט הנכון:

- עשוי לגדול וזמן השגת שיווי המשקל עשוי להתארך.
- $\Delta H^0$  עשוי לגדול וזמן השגת שיווי המשקל עשוי להתקצר.
- K עשוי לקטון וזמן השגת שיווי המשקל עשוי להתארך.
- K ו- $\Delta H^0$  עשויים לגדול וזמן השגת שיווי המשקל עשוי להתקצר.

5) נתונה תגובת שיווי משקל  $2SO_{3(g)} \rightleftharpoons 2SO_{2(g)} + O_{2(g)}$  עבורה ב- $T_1$ ,  $K_p = 0.15$ .

לכלי התגובה, שנפחו 12.5 ליטר ושנמצא ב- $T_1$ , הוזרמו שלושת הגזים.

בתחילת התגובה הלחץ החלקי של  $SO_{3(g)}$  שווה ל-1.2 בר, הלחץ החלקי של

$O_{2(g)}$  שווה ל-0.6 בר והלחץ החלקי של  $SO_{2(g)}$  שווה ל-1.2 בר.

מהו המשפט הנכון לגבי המערכת במצב של שיווי משקל:

- הלחץ החלקי של  $SO_{3(g)}$  קטן מ-1.2 בר.
- הלחץ החלקי של  $SO_{2(g)}$  גדול מ-1.2 בר.
- הלחץ החלקי של  $O_{2(g)}$  גדול מ-0.6 בר.
- הלחץ הכללי בכלי התגובה קטן מ-3.0 בר.

6) לכלי התגובה, שנפחו 3.00 ליטר ומוחזק בטמפרטורה של 550 K, הוכנסו 20.0

גרם של  $PCl_5$  גזי. תוך מספר דקות המערכת הגיעה למצב של שיווי משקל.

בתנאים אלה הלחץ שווה ל-2.77 bar. כמו כן,  $PCl_{5(g)} \rightleftharpoons PCl_{3(g)} + Cl_{2(g)}$ .

א. 1. חשבו את הלחץ החלקי (ביחידות bar) של כל מרכיבי המערכת במצב של שיווי המשקל.

2. חשבו את אחוז הפירוק של  $PCl_5$  בתנאים אלה.

3. חשבו את ה- $K_p$  בטמפרטורה של 550 K.

ב. אם נבצע את התגובה בטמפרטורה של 400 K (כאשר כל מרכיבי

המערכת במצב גזי), האם אחוז הפירוק של  $PCl_5$  יהיה קטן, גדול יותר

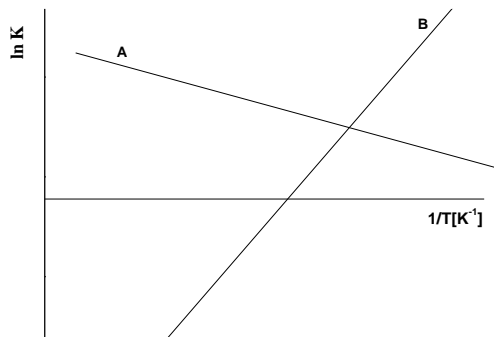
או שווה לזה שחושב בסעיף א.2? נתון גם שבעת התהליך הישיר הכלי

מתחמם. נמקו ללא חישובים.

7) לתגובה  $2A_{(g)} \rightleftharpoons B_{(g)} + 3C_{(g)}$  בטמפרטורת החדר  $K_c = 2.5$ . לכלי התגובה בטמפרטורת החדר הוכנסו שלושת הגזים בריכוז  $2.5 M$  כל אחד. מהו המשפט הנכון:

- א. עד השגת שיווי המשקל ריכוזו של C ירד.
- ב. עד השגת שיווי המשקל ריכוזו של A ירד.
- ג. ריכוז כל מרכיבי התגובה לא ישתנה, כי המערכת נמצאת בשיווי משקל.
- ד. אי אפשר לדעת כי לא נתון נפח הכלי.

8) שתי העקומות להלן מתארות את  $\ln K$  כפונקציה של  $\frac{1}{T}$ :



נתונות שלוש תגובות:

- 1)  $N_{2(g)} + 3H_{2(g)} \rightleftharpoons 2NH_{3(g)} \quad \Delta H^0 < 0$
- 2)  $N_2O_{4(g)} \rightleftharpoons 2NO_{2(g)} \quad \Delta H^0 < 0$
- 3)  $2SO_{3(g)} \rightleftharpoons 2SO_{2(g)} + O_{2(g)} \quad \Delta H^0 > 0$

איזו תגובה מתאימה לאיזה עקום, אם נתון שבתגובות שמתאימות לעקומות הגדלת הנפח גורמת להגדלת כמות התוצרים:

- א.  $A = 3, B = 1$
- ב.  $A = 3, B = 2$
- ג.  $A = 1, B = 2$
- ד.  $A = 2, B = 1$

9) לכלי סגור, בנפח 6.0 ליטר ובטמפרטורה של 380 K, הוכנסו גז  $\text{N}_2\text{O}_4$  ו-  $\text{NO}_2$ .

גזי. הלחץ ההתחלתי של  $\text{N}_2\text{O}_4$  שווה ל-1.30 bar ושל  $\text{NO}_2$ , 0.08 bar.

בין הגזים מתקיימת תגובת שיווי המשקל  $2\text{NO}_{2(g)} \rightleftharpoons \text{N}_2\text{O}_{4(g)}$ .

במהלך התגובה בוצע מעקב אחר הלחץ הכללי ששרר במיכל:

זמן (דקות)	0	1.0	2.0	3.5	6	12
לחץ (bar)	1.38	1.68	1.88	2.04	2.14	2.14

א. האם מסה של  $\text{N}_2\text{O}_4$  עלתה או ירדה במהלך התגובה. נמקו.

ב. חשבו את הלחצים החלקיים של  $\text{N}_2\text{O}_4$  ושל  $\text{NO}_2$  בזמן  $t = 2 \text{ min}$ .

ג. 1. חשבו את הלחצים החלקיים של הגזים במצב שיווי משקל.

2. רשמו ביטוי לקבוע שיווי המשקל לפי הלחצים, וחשבו את ערכו של קבוע שיווי המשקל לפי הלחצים בתנאים אלה.

ד. בדקה ה-14 הכלי חומם, וכתוצאה מכך, ריכוז ה- $\text{NO}_2$  עלה.

1. האם התהליך הישיר הוא אקסותרמי או אנדותרמי? נמקו.

2. האם זמן השגת שיווי המשקל החדש קצר, ארוך יותר, או שווה לזה שהיה? נמקו.

10) בתגובת שיווי המשקל  $2\text{A}_{(g)} \rightleftharpoons 2\text{B}_{(g)} + \text{C}_{(g)}$ , הוכנסו לכלי התגובה, שנפחו 4.0

ליטר, 0.2 מול של A. במהלך התגובה עקבו אחרי ריכוזו של A וחושב ה-Q. תוצאות הניסוי מובאות בטבלה הבאה:

זמן (דקות)	5	10	15	20	25
Q	$1.25 \cdot 10^{-3}$	$1.77 \cdot 10^{-2}$	$1.35 \cdot 10^{-1}$	1.28	1.28

נתונות מספר קביעות:

1. בין הדקות 15-20 הלחץ בכלי התגובה עלה.

2. בין הדקות 20-25 הלחץ בכלי נשאר קבוע.

3. המערכת הגיע לשיווי משקל בין הדקות 20-25.

מהי הקביעה הלא נכונה:

א. 1 בלבד.

ב. 3 בלבד.

ג. 2 ו-3.

ד. 1 ו-3.

**11** נתונה תגובת שיווי המשקל  $\text{SbCl}_{5(g)} \rightleftharpoons \text{SbCl}_{3(g)} + \text{Cl}_{2(g)}$ , כאשר  $K_c(T = 520\text{K}) = 0.025$ .

לתוך כלי ריק, בנפח 100 ליטר ושמוחזק בטמפרטורה של 520 K, הכניסו 2.0 מול של  $\text{SbCl}_{3(g)}$ , 3.0 מול של  $\text{SbCl}_{5(g)}$  ו-5.0 מול של  $\text{Cl}_{2(g)}$ .

א. האם מרגע הכנסת החומרים ועד השגת שיווי המשקל הריכוז של  $\text{SbCl}_{5(g)}$  גדל, קטן או נשאר ללא שינוי? נמקו.

ב. מהם הריכוזים של כל מרכיבי המערכת במצב שיווי משקל?

ג. תגובת שיווי המשקל  $\text{SbCl}_{5(g)} \rightleftharpoons \text{SbCl}_{3(g)} + \text{Cl}_{2(g)}$  נחקרה בטמפרטורה

של 500 K. לתוך כלי ריק, בנפח 100 ליטר ושמוחזק בטמפרטורה של 500 K הוכנסו 2.0 מול של  $\text{SbCl}_{3(g)}$ , 3.0 מול של  $\text{SbCl}_{5(g)}$  ו-5.0 מול של  $\text{Cl}_{2(g)}$ . אחרי זמן מסוים המערכת הגיעה למצב של שיווי משקל.

במצב זה, הריכוז של  $\text{SbCl}_{5(g)}$  היה 0.028 M.

האם תגובת פירוק של  $\text{SbCl}_{5(g)}$  ל- $\text{SbCl}_{3(g)}$  ול- $\text{Cl}_{2(g)}$  היא אנדותרמית או אקסותרמית? נמקו.

**12** שני מכלים נמצאים בטמפרטורה של  $450^\circ\text{C}$ . בראשון, שנפחו 5 ליטר, קיים שיווי המשקל  $\text{N}_{2(g)} + 3\text{H}_{2(g)} \rightleftharpoons 2\text{NH}_{3(g)}$ . הלחצים החלקיים שנמדדו בו הם:

$$P_{\text{N}_2} = 11.85 \text{ bar}, P_{\text{H}_2} = 23.70 \text{ bar}, P_{\text{NH}_3} = 35.55 \text{ bar}$$

המיכל השני, שנפחו 1 ליטר, מכיל רק 1 מול מימן.

כמה גרם חנקן צריך להוסיף למיכל זה, כדי שבשיווי המשקל 60% מהמימן יהפכו לאמוניה ( $\text{NH}_3$ ) כשהטמפרטורה נשארת קבועה וזהה בשני המכלים?

**13** לכלי התגובה הוכנסו 0.16 מולים של A ו-0.16 מולים של B, ואחרי 18.5 דקות המערכת הגיעה למצב של שיווי המשקל. במצב זה נמצאים בכלי 0.12

מולים של A, 0.08 מולים של B ו-0.12 מולים של C.

מהו הביטוי המתאים ביותר שמבטא את קבוע שיווי המשקל:

א. 
$$K = \frac{P_C}{P_A \cdot (P_B)^2}$$

ב. 
$$K = \frac{(P_C)^2}{P_A \cdot P_B}$$

ג. 
$$K = \frac{(P_C)^3}{P_A \cdot (P_B)^2}$$

ד. 
$$K = \frac{(P_C)^3}{(P_A)^2 \cdot P_B}$$

- 14) נתונה תגובה שהסתיימה בשיווי המשקל  $A_{(g)} + 2B_{(g)} \rightleftharpoons 3C_{(g)}$ ,  $\Delta H^0 < 0$ . לכלי שנפחו 15 ליטר הוכנסו A ו-B בלבד. נתון שבזמן אפס הריכוז של B היה 0.20M, והריכוז של A היה 0.10M. נתונות חמש קביעות עבור תגובה זו:
1. במצב של שיווי משקל הריכוז של C שווה ל-0.3 M.
  2. בתגובה זו, המעקב אחר השתנות הלחץ הכללי מאפשר לקבוע האם התגובה הגיעה למצב של שיווי משקל.
  3. אם במצב של שיווי משקל מגדילים את נפח הכלי ל-30 ליטר, הריכוז של C בזמן השינוי יקטן פי 2, ואחר כך יגדל עד השגת שיווי המשקל החדש.
  4. אם במצב של שיווי משקל מגדילים את נפח הכלי ל-30 ליטר, מספר המולים של C במצב שיווי המשקל החדש יהיה גדול מזה שבמצב שיווי המשקל לפני הגדלת הנפח.
  5. חימום יגרום להגדלת קבוע שיווי המשקל. מהן הקביעות הלא נכונות:
    - א. 1, 2 ו-3.
    - ב. 1, 3 ו-4.
    - ג. 2, 3 ו-4.
    - ד. אף קביעה אינה נכונה.
- 15) הבשלושת הניסויים הבאים התרחשה התגובה  $2SO_{2(g)} + O_{2(g)} \rightleftharpoons 2SO_{3(g)}$
- ניסוי 1:** לכלי שנפחו 1 ליטר, המוחזק בטמפרטורה של 300 K, הכניסו תערובת של הגזים  $SO_2$  ו- $O_2$  בלבד. לאחר 10 דקות נמצא שריכוזי החומרים בכלי אינם משתנים עוד והם:  $SO_{3(g)}: 0.6M$ ,  $O_{2(g)}: 0.2M$ ,  $SO_{2(g)}: 0.4M$ .
- א. מהם הריכוזים ההתחלתיים של הגזים שהוכנסו לכלי?
  - ב. חשבו את ה- $K_c$  בטמפ' 300 K.
  - ג. האם הלחץ בכלי עלה, ירד או נשאר ללא שינוי מתחילת התגובה ועד השגת מצב שיווי משקל?
- ניסוי 2:** לכלי התגובה שנפחו 1 ליטר, המוחזק גם הוא בטמפרטורה של 300 K, הכניסו תערובת של אותם גזים כמו בניסוי הראשון. כעבור זמן מה בדקו את הרכב הגזים ונמצאו בכלי  $SO_{3(g)}: 0.3M$ ,  $O_{2(g)}: 0.1M$ ,  $SO_{2(g)}: 0.4M$ .
- ד. האם ברגע הבדיקה המערכת נוטה ליצור תוצרים, מגיבים, או נמצאת בשיווי משקל?
- ניסוי 3:** לכלי שנפחו 1 ליטר הוכנסו אותם מספרי מולים של הגזים  $SO_{2(g)}$  ו- $O_{2(g)}$  כמו בניסוי 1, אולם הושג שיווי משקל בזמן קצר יותר, ונמצא שריכוז  $SO_{2(g)}$  במצב שיווי המשקל היה גבוה מזה שבניסוי מספר 1.
- ה. האם התגובה הישירה היא אקסותרמית או אנדותרמית?

16) סטודנטית מכניסה לגליל גז A ב-10 אטמוספירות וב-25°C. כתוצאה מכך, בגליל מתרחשת התגובה הבאה, שמסתיימת בהיווצרות מצב של שיווי משקל:

$$A_{(g)} \rightleftharpoons 2B_{(g)} + 3C_{(g)}$$

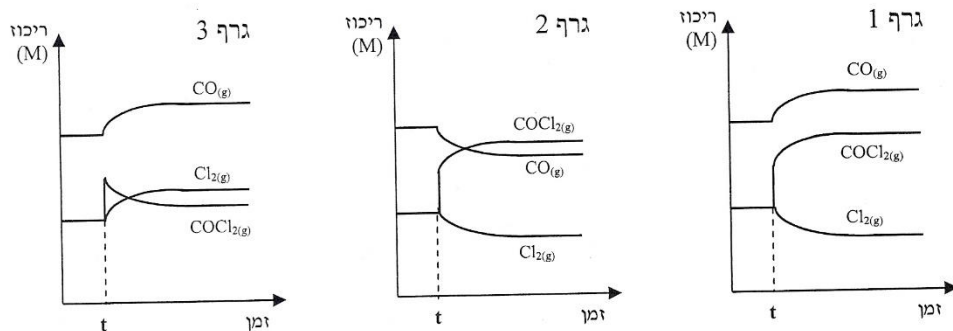
במצב זה הלחץ הכללי במערכת שווה ל-15.76 אטמ.

- חשבו את ה- $K_p$  עבור תגובה זו בטמפרטורה הנתונה.
- חשבו את ה- $K_c$  עבור תגובה זו בטמפרטורה הנתונה.

17) ציקלוהקסאן (C) ומתיל ציקלופנטאן (M) הם איזומרים. קבוע שיווי המשקל של התגובה  $C_{(aq)} \rightleftharpoons M_{(aq)}$ , הוא 0.14 ב-25°C.

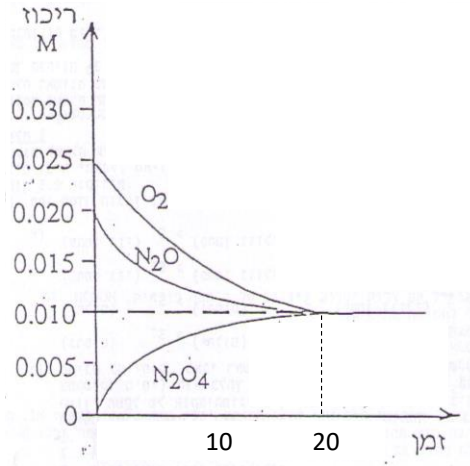
- חוקרת מכינה תמיסה של  $C_{(aq)}$  0.02M ו- $M_{(aq)}$  0.1M. האם המערכת נמצאת בשיווי משקל? אם לא, האם ייווצרו עוד מגיבים או תוצרים?
- מהם ריכוזי ה-C וה-M בשיווי המשקל?
- המערכת חוממה במצב שיווי משקל ל-50°C. כעבור זמן-מה המערכת חזרה לשיווי המשקל שבו הריכוז של C שווה ל-0.1M. חשבו את קבוע שיווי המשקל החדש.
- האם התגובה הישירה היא אקסותרמית או אנדותרמית?

18) נתונה מערכת שנמצאת בשיווי משקל  $CO_{(g)} + Cl_{2(g)} \rightleftharpoons COCl_{2(g)}$ . בזמן  $t$  מעלים את הריכוז של  $COCl_{2(g)}$  ללא שינוי ביתר הפרמטרים. איזה מהגרפים הבאים מתאר נכון את התנהגות המערכת בעקבות ההפרעה:



- גרף 1.
- גרף 2.
- גרף 3.
- גרפים 1 ו-3.

- 19) לכלי שנפחו 5.0 ליטר, המוחזק בטמפרטורה 380 K, הוכנסו  $\text{N}_2\text{O}_{(g)}$  ו-  $\text{O}_{2(g)}$ . הגרף שלהלן מתאר את השינויים בריכוזי החומרים (ביחידות מול לליטר) ביחס לזמן (בדקות):

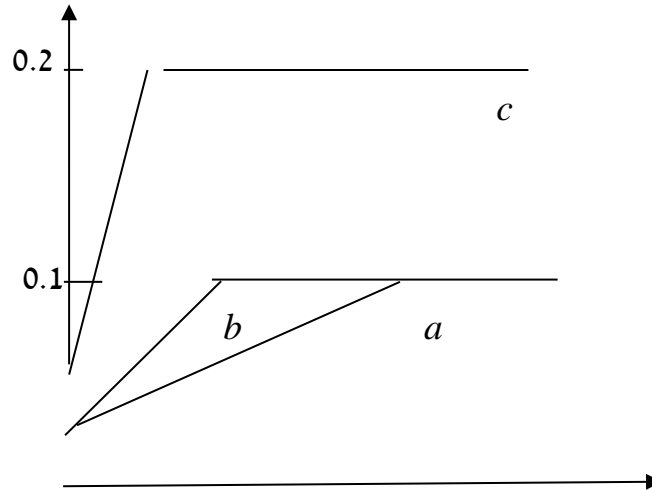


- רשמו את התגובה המתרחשת בכלי התגובה.
- חשבו את ערכו של קבוע שיווי המשקל לפי הריכוזים.
- האם הלחץ הכללי במערכת מרגע הכנסת החומרים ועד השגת שיווי המשקל יגדל, יקטן או לא ישתנה? נמקו.
- ברגע מסוים חיברו למערכת זו כלי נוסף, שנפחו 5 ליטר והוא נשמר בטמפרטורה של 380 K, ובו נמצא חמצן בריכוז של 0.01 M. תארו באופן גרפי את השתנות הלחץ החלקי של החמצן ושל  $\text{N}_2\text{O}_{4(g)}$  במשך 30 דקות מרגע החיבור של הכלי הנוסף. נמקו.



ונתונים שלושה כלים  $a$ ,  $b$  ו- $c$ . נפחו של כל כלי 1 ליטר, ולכל כלי הכניסו 0.2 מול  $\text{H}_2(\text{g})$  ו-0.2 מול  $\text{CO}_2(\text{g})$ . להלן תיאור גרפי של השתנות הריכוז של  $\text{CO}(\text{g})$  עם הזמן, המתאים לכל אחת מהמערכות  $a$ ,  $b$  ו- $c$ .

ריכוז  $\text{CO}(\text{M})$



זמן (דקות)

- א. חשבו את ערכו של  $K$  עבור המערכת  $a$ .
- ב. במה שונה מערכת  $a$ 
  1. ממערכת  $b$ ? הסבירו מהו הגורם להבדל.
  2. ממערכת  $c$ ? הסבירו מהו הגורם להבדל.
- ג. האם התגובה משמאל לימין היא אקסותרמית או אנדותרמית? נמקו.

## תשובות סופיות

- (1) ב
- (2) א
- (3) ב
- (4) ג
- (5) ד
- (6) א.  $P(\text{PCl}_5) = 0.15 \text{ bar}$ ;  $P(\text{PCl}_3) = P(\text{Cl}_2) = 1.31 \text{ bar}$   
 2. 89.73% 3. 11.44 ב. יגדל.  
 (7) א
- (8) ב
- (9) א.1. ירדה. 2.  $P(\text{N}_2\text{O}_4) = 0.8 \text{ bar}$ ;  $P(\text{NO}_2) = 1.08 \text{ bar}$   
 1.ב.  $P(\text{N}_2\text{O}_4) = 0.54 \text{ bar}$ ;  $P(\text{NO}_2) = 1.6 \text{ bar}$  2. 0.21  
 ג.1. אקסותרמי. 2. קצר.  
 (10) ב
- (11) א. תגדל.  
 ב.  $C(\text{SbCl}_5) = 0.033 \text{ M}$ ;  $C(\text{Cl}_2) = 0.047 \text{ M}$ ;  $C(\text{SbCl}_3) = 0.017 \text{ M}$   
 ג. אקסותרמי.  
 (12) 8.03 גרם.  
 (13) ג
- (14) ד
- (15) א.  $C(\text{SO}_2) = 1 \text{ M}$ ;  $C(\text{O}_2) = 0.5 \text{ M}$  ב. 11.25 ג. ירד  
 ד. נוטה ליצור תוצרים ה. אנדותרמי.
- (16) א. 78.12 ב.  $2.198 \cdot 10^{-4}$
- (17) א. מגיבים. ב.  $[C] = 0.105 \text{ M}$ ;  $[M] = 0.015 \text{ M}$   
 ג. 0.2 ד. אנדותרמי.  
 (18) ג
- (19) א.  $3\text{O}_{2(g)} + 2\text{N}_2\text{O}_{(g)} \rightleftharpoons 2\text{N}_2\text{O}_{4(g)}$  ב.  $10^6$  ג. הלחץ יקטן.  
 ד. הלחץ של  $\text{N}_2\text{O}_4$  ירד ונשאר קבוע; הלחץ של החמצן לא השתנה.
- (20) א. 1 ב.1. בכלי  $b$  היה זרז. 2. בכלי  $c$  הטמפרטורה גבוהה יותר.  
 ג. אנדותרמי.

## כימיה כללית 2

פרק 6 - שיווי משקל בתגובת שיקוע של חומר יוני

תוכן העניינים

1. שיווי משקל בתגובת שיקוע של חומר יוני..... 33

## שיווי משקל בתגובת שיקוע של חומר יוני

### שאלות

1) ענו על הסעיפים הבאים:

א. המסיסות של המלח  $Pb_3(PO_4)_2$  היא  $1.1 \cdot 10^{-5}$  גרם ב-100 גרם מים, בטמפרטורה של  $20^\circ C$ .

חשבו את ה- $K_{sp}$  של  $Pb_3(PO_4)_2$ .

ב. להלן שתי תמיסות רוויות, האחת ב- $CuS$  והשנייה ב- $Fe_2S_3$ .

באיזו מהן ריכוז ה- $S^{2-}$  נמוך יותר?

נתון כי  $K_{sp}(Fe_2S_3) = 1.0 \cdot 10^{-88}$ ;  $K_{sp}(CuS) = 8.0 \cdot 10^{-36}$ .

2) כמה גרם של  $La(IO_3)_3$  ניתן להמיס ב:

א. 250 מ"ל מים?

ב. 250 מ"ל תמיסת  $LiIO_3$  בריכוז של 0.05 M?

נתון כי  $K_{sp}(La(IO_3)_3) = 1.0 \cdot 10^{-11}$ .

3) הוסיפו תמיסה מרוכזת של  $KIO_3$ , במנות קטנות, לתמיסה של  $Ba^{2+}$  בריכוז

0.05 M, ו- $Ag^+$  ב-0.04 M.

א. איזה יון ישקע קודם?

נתון כי  $K_{sp}(Ba(IO_3)_2) = 10^{-9}$ ;  $K_{sp}(AgIO_3) = 10^{-11}$ .

ב. מה יהיה ריכוז יון זה בתמיסה, כאשר היום השני עומד לשקוע?

4) נתונה תמיסת מלח קשה-תמס  $Ba(IO_3)_2$ , כאשר ריכוז היום השלילי בתמיסה

הוא  $1.26 \cdot 10^{-3} M$ .

א. חשבו את ה- $K_{sp}$  עבור  $Ba(IO_3)_2$ .

ב. חשבו את מסיסותו של  $Ba(IO_3)_2$  בתמיסה של  $NaIO_3$  בריכוז 0.01 M.

- 5) להלן תמיסה המכילה יוני  $Cl^-$ ,  $Br^-$ ,  $I^-$  ו-  $CrO_4^{2-}$ , כאשר ריכוז כל יון הוא  $0.1M$ , שהוסיפו לה בהדרגה תמיסת  $AgNO_3$ . איזה משקע יופיע ראשון, ובאיזה סדר יופיעו שאר המשקעים?  
 נתון כי  $K_{sp}(AgI) = 8.3 \cdot 10^{-17}$ ;  $K_{sp}(AgBr) = 5 \cdot 10^{-13}$   
 $K_{sp}(AgCl) = 1.8 \cdot 10^{-10}$ ;  $K_{sp}(Ag_2CrO_4) = 1.2 \cdot 10^{-12}$
- 6) הוסיפו  $0.5$  ליטר של תמיסת  $TiNO_3$ , בריכוז  $2.8 \cdot 10^{-4} M$ , ל- $0.5$  ליטר תמיסת  $KI$  בריכוז זהה. נתון כי  $K_{sp}(TiI) = 4 \cdot 10^{-8}$ . האם יופיע משקע?
- 7) ריכוז יוני  $Ag^+$  בתמיסה מסוימת הוא  $4 \cdot 10^{-3}$ . נתון כי  $K_{sp}(AgCl) = 1.8 \cdot 10^{-10}$ . חשבו את הריכוז המקסימלי של יוני כלור שניתן להוסיף, עד ש-  $AgCl_{(s)}$  יחל לשקוע.
- 8) נתון חומר יוני קשה-תמס  $CH_3COOAg$  ( $K_{sp} = 5.2 \cdot 10^{-3}$ ).  
 א. חשבו את מסיסותו במים. פרטו את החישובים.  
 ב. נתונים החומרים  $AgNO_{3(s)}$ ,  $CH_3COONa_{(s)}$ ,  $K_2S_{(2)}$ ,  $KNO_{3(s)}$ . התייחסו לכל אחד מהחומרים הללו, וציינו את החומר שיגרום להגדלת המסיסות של  $CH_3COONa_{(s)}$ . נמקו.  
 נתון כי  $K_{sp}(Ag_2S) = 5.7 \cdot 10^{-51}$ .
- 9) תנאי לאי-היווצרות משקע הוא:  
 א. להשתמש במומס שהוא חומר יוני קל-תמס.  
 ב. כשמנת הריכוזים של היונים ( $Q$ ) שווה ל-  $K_{sp}$ .  
 ג. כשמנת הריכוזים של היונים ( $Q$ ) נמוכה מ-  $K_{sp}$ .  
 ד. כשמנת הריכוזים של היונים ( $Q$ ) גבוהה מ-  $K_{sp}$ .
- 10) נוכחות של יון משותף בתמיסה,  
 א. מגדילה את מסיסות המשקע.  
 ב. לא משפיעה על מסיסות המשקע.  
 ג. מקטינה את מסיסות המשקע.  
 ד. גורמת להיווצרות שני משקעים.

**11** ל-  $\text{AgOH}_{(s)}$  ( $K_{sp} = 2.50 \cdot 10^{-16}$ ) הוכנסה תמיסה רוויה של  $\text{AgOH}_{(aq)}$ .  
מהו ערך ה- pH של התמיסה שנוצרה בתנאי החדר?  
(יש להתחשב ביוני  $\text{OH}^-$ , שמקורם במסיסות החלקית של המשקע)

**12** ניתן להשפיע על מסיסות המשקע על ידי

- א. הוספת מים.
- ב. הגדלת הטמפרטורה.
- ג. הקטנת הטמפרטורה.
- ד. כל התשובות נכונות.

## תשובות סופיות

- (1) א.  $K_{sp} = 502.48 \cdot 10^{-35}$  ב. CuS
- (2) א. 0.13 g ב.  $1.328 \cdot 10^{-5} \text{ g}$
- (3) א.  $\text{Ag}^+$  ב.  $0.71 \cdot 10^{-6} \text{ M}$
- (4) א.  $10^{-9}$  ב.  $10^{-5} \text{ M}$
- (5) AgI, ואחריו AgBr, AgCl, ואז  $\text{Ag}_2\text{CrO}_4$ .
- (6) לא.
- (7)  $> 0.45 \cdot 10^{-7} \text{ M}$
- (8) א. 0.0072 M ב.  $\text{K}_2\text{S}_{(2)}$
- (9) ג
- (10) ג
- (11) 7.01
- (12) ד