

יסודות המימון ושימושם בשומת מקרקעין



תוכן העניינים

1	היוונים (שימוש בנוסחאות)
16	היוונים (ערך עתידי וערך נוכחי) בשיטת מחשבון פיננסי
27	ריבית
32	תרגול חישובי ערך (היוונים וריביות) והערכת מניות
42	אינפלציה מדד ושינוי ברמת המחירים
46	שחזורי שאלות מימון בתנאי אינפלציה
48	לוחות סילוקין
50	לוחות סילוקין בשיטת מחשבון פיננסי
51	שחזורי שאלות בנושא הלוואות ולוחות סילוקין
55	אגרת חוב (חישוב באמצעות נוסחאות)
58	איגרות חוב (אגח) בשיטת מחשבון פיננסי
61	שחזורי שאלות הערכת איגרות חוב
64	הגדרות וסוגי פרויקטים
70	פרוייקטים בשיטת מחשבון פיננסי
80	שחזורי שאלות קריטריונים לקבלת החלטות השקעה
87	בניית תזרים מזומנים (שימוש בלוחות היוון)
92	שחזורי שאלות הערכת פרויקטים (תזרים מזומנים)
97	אי וודאות
112	שאלון מספר 812050 יסודות המימון ושימושם בשומת מקרקעין
120	שאלון מספר 816031 יסודות המימון ושימושם בשומת מקרקעין

יסודות המימון ושימוש בשומת מקרקעין

פרק 1 - היוונים (שימוש בנוסחאות)

תוכן העניינים

1. כללי 1

היוונים (שימוש בנוסחאות):

שאלות:

FV חד פעמי:

- (1) אופיר מפקיד 100 ₪ היום, 100 ₪ נוספים לאחר שנה, 200 ₪ בתום שנה שלישית. כמה הצטבר לזכותו בתום 10 שנים, באם הריבית היא 2% לשנה בשנתיים הראשונות, 3% לשנה בשלוש שנים לאחר מכן ו-8% בשאר השנים?
- (2) אופיר הפקיד היום 1,000 ₪ בתוכנית חיסכון סגורה ל-3 שנים. התוכנית נושאת תשואה שנתית של 6%. כמה יצטבר לזכותו בתום התוכנית?
- (3) אופיר הפקיד היום 1,000 ₪ בתוכנית חיסכון סגורה ל-3 שנים. התוכנית נושאת תשואה שנתית של 6%. לאחר 3 שנים סגר הלקוח את הכסף לשלוש שנים נוספות בריבית של 7% לשנה. כמה יצטבר לזכותו בתום 6 שנות חיסכון?
- (4) ליעד הפקיד היום 1,000 ₪ ובתום שנתיים הפקיד 1,000 ₪ נוספים. התוכנית נושאת תשואה שנתית של 3.5%. כמה יצטבר לזכותו בתום 5 שנות חיסכון?
- (5) ליעד הפקיד היום 1000 ₪ ובתום שנתיים הפקיד 1000 ₪ נוספים. התוכנית נושאת תשואה שנתית של 3.5% בשנה הראשונה, 5% בשנתיים לאחר מכן ו-10% בשאר השנים. כמה יצטבר לזכותו בתום 8 שנות חיסכון?
- (6) דור פתח תוכנית חיסכון לקראת הגיוס כאשר היום הפקיד 15,000 ₪ בתום 3 שנות שירות הצטבר לזכותו סכום של 16,390 ₪. מה שיעור התשואה השנתי שלה זכה דור?
- (7) דור פתח תוכנית חיסכון לקראת הגיוס כאשר היום הפקיד 15,000 ₪ ובתום 4.5 שנות שירות (חובה + קבע) הצטבר לזכותו סכום של 16,390 ₪. ידוע כי במועד השחרור קיבל מענק של 750 ₪. מה שיעור התשואה השנתי שלה זכה דור?

- (8)** סבתא דליה מעוניינת להוריש לשני נכדיה 100,000 ₪ בתום 10 שנים מהיום. לצורך כך הפקידה היום סכום מסוים וסכום משולש מסכום ההפקדה הראשון בתום השנה החמישית. הריבית על ההפקדות 3% לשנה. מה סכום ההפקדה בתום השנה החמישית?
- (9)** סבתא דליה מעוניינת להוריש לשני נכדיה 100,000 ₪ בתום 10 שנים מהיום. לצורך כך הפקידה היום סכום מסוים וסכום משולש מסכום ההפקדה הראשון בתום השנה החמישית. הריבית על ההפקדות 3% בשנה הראשונה, 5% לשנה בחמש השנים לאחר מכן ו-7% בשנה בשאר השנים. מה סכום ההפקדה בתום שנה חמישית?
- (10)** סבא דוד מפקיד 100 ₪ היום ובתום שנה ראשונה. הריבית השנתית 2% לשנה והיא גדלה ב-1.5% כל שנה. כמה הצטבר לזכותו בתום 4 שנות חיסכון?
- (11)** פועל בבית אריזה מפריש לחיסכון סכום של 300 ₪ כל שנה שנייה החל מהיום ובמשך 4 הפקדות. כמה יצטבר לזכותו בתום 10 שנים, באם הריבית 8% לשנה?
- (12)** פועל בבית אריזה מפריש לחיסכון סכום של 300 ₪ כל שנה שנייה החל מהיום ובמשך 4 הפקדות. כמה יצטבר לזכותו בתום 10 שנים, באם הריבית 8% לשנה בארבע השנים הראשונות ולאחר מכן צונחת ל-0.5%?
- (13)** פועל בבית אריזה מפריש לחיסכון סכום של 300 ₪ כל שנה שנייה החל מהיום ובמשך 4 הפקדות. כמה יצטבר לזכותו בתום 10 שנים, באם הריבית 8% לשנה בארבע השנים הראשונות ולאחר מכן צונחת ל-0.5%? ידוע כי אם יתמיד וישאיר את הכסף עד תום שנה עשירית יקבל מענק של 3% מסך כל הסכום שנצבר בשנה זו.
- (14)** משקיע מפקיד 100 ₪ בתום שנה ראשונה ושנייה ו-200 ₪ בתום שנה רביעית וחמישית, כמה הצטבר לזכותו בתום שנה חמישית, באם הריבית בשנה הראשונה היא 1% והיא עולה ב-2% כל שנה?

- 15** הוצע לך בבנק, אחת מההשקעות הבאות:
- א. הפקד היום 100 ₪ ובעוד 3.5 שנים 100 ₪ נוספים בריבית שנתית של 5% בשנתיים הראשונות ו-2% בשאר השנים.
- ב. לחילופין ניתן להפקיד סכום חד פעמי של 250 ₪ בתום שנה חמישית ולקבל ריבית קבועה של 1% לשנה.
- איזו חלופה עדיפה באם החיסכון ייפרע בתום שנה עשירית?
- 16** הינך מפקיד היום סכום מסוים וסכום כפול מההפקדה הראשונה בתום שנה שנייה וזאת על מנת להבטיח סכום של 1000 ₪ בתום 8 שנים.
- מה סכום ההפקדה בשנה השנייה באם הריבית היא 5% לשנה?
- 17** כמה עלי להפקיד היום בתוכנית חיסכון הנושאת ריבית של 0.5% לחודש, באם אני מעוניין שבפירעון התוכנית בתום שנתיים וחצי מהיום יעמוד לזכותי סך של 5000 ₪?

FV סדרתי:

- 18** ליעד מפקיד 100 ₪ כל שנה למשך 4 שנים.
- כמה הצטבר לזכותו בתום 10 שנים, באם הריבית היא 1% לשנה?
- 19** ליעד מפקיד 100 ₪ בתחילת כל שנה למשך 4 שנים.
- כמה הצטבר לזכותו בתום 10 שנים, באם הריבית היא 1% לשנה?
- 20** לקוח חוסך 400 ₪ כל חודש למשך 5 שנים.
- כמה יצטבר לזכותו בתום תקופת החיסכון באם הריבית החודשית 2% לחודש?
- 21** לקוח חוסך 400 ₪ כל חודש למשך 5 שנים.
- כמה יצטבר לזכותו בתום תקופת החיסכון באם הריבית החודשית 2% לחודש במהלך שלוש השנים הראשונות ולאחר מכן הריבית יורדת ל-0.2% בחודש?
- 22** אופיר מפקיד 300 ₪ כל חודש למשך 3 שנים. הריבית החודשית בתכנית חסכון היא 0.35% לחודש.
- כמה יצטבר לזכותו בתום 3 שנים של חסכון?
- 23** מר מאגדי מפקיד 300 ₪ כל חודש למשך 3 שנים. הריבית החודשית בתוכנית חסכון היא 0.35% לחודש.
- כמה יצטבר לזכותו בתום 5 שנים מפתיחת התוכנית, אם משך את כל הכסף שנתיים לאחר סיום ההפקדות?

- 24** גברת שושי מפקידה 200 ₪ כל חודש למשך 3 שנים ובשנתיים לאחר מכן מפקידה 400 ₪ לחודש. הריבית החודשית בתוכנית חסכון היא 1% לחודש. כמה יצטבר לזכותה בתום 5 שנות חיסכון?
- 25** גברת שושי מפקידה 200 ₪ כל חודש למשך 3 שנים ובשנתיים לאחר מכן מפקידה 400 ₪ לחודש. הריבית החודשית בתוכנית חסכון היא 1% לחודש. כמה יצטבר לזכותה בתום תכנית החיסכון באם נקודת היציאה מהתוכנית היא בתום 10 שנים מתחילת החיסכון?
- 26** לקוחה מפקידה 100 ₪ כל חודש למשך שנתיים ובשנה לאחר מכן מפקידה 200 ₪ לחודש. הריבית החודשית בתכנית החסכון היא 0.5% לחודש בשנתיים הראשונות ו-1.5% לחודש בשאר התקופות. כמה יצטבר לזכותה בתום 5 שנות חיסכון?
- 27** ליעד פתח תכנית חסכון ל-5 שנים. במהלך השנתיים הראשונות הפקיד 1,000 ₪ לחודש. ב-3 שנים שאחר כך הוכפל סכום ההפקדה. הריבית החודשית 1% לחודש. כמה יצטבר לזכות ליעד בתום התקופה?
- 28** ליעד פתח תכנית חסכון ל-5 שנים. במהלך השנתיים הראשונות הפקיד סכום מסוים כל חודש וב-3 שנים שאחר כך הוכפל סכום ההפקדה. הריבית החודשית 1% לחודש. ידוע כי בתום התקופה הצטבר לזכותו 50,000 ₪. מה היה סכום ההפקדה בשנה הרביעית?
- 29** חוסך הפקיד 2,000 ₪ לחודש בתוכנית חסכון למשך 3 שנים. הריבית בתוכנית החיסכון 1% לחודש. בתום תקופת החיסכון קיבל החוסך מענק של 10% מסכום הפקדויותיו. כמה יקבל החוסך בתום תקופת החיסכון?
- 30** אורית, יועצת מס מוסמכת הפקידה לעובדיה 900 ₪ לחודש בקרן השתלמות למשך שנתיים. במהלך השנתיים לאחר מכן לא הפקידה כלל. מתום שנה רביעית חזרה להפקיד והעלתה את סכום ההפקדה ל-2000 ₪ לחודש למשך שנתיים נוספות. כמה הצטבר בקרן בתום 6 שנים באם הריבית 7% לחודש?
- 31** חוסך מפקיד 100 ₪ כל חודש למשך שנה, כמה הצטבר לזכותו בתום שנתיים? באם הריבית 5% לחודש בשנה הראשונה ו-1% לחודש בשאר השנים?
- 32** יהל מפקיד 100 ₪ בתחילת כל חודש למשך שנה, כמה הצטבר לזכותו בתום שנתיים באם הריבית 5% לחודש בשנה הראשונה ו-1% לחודש בשאר השנים?

- 33** פרט מתלבט בין החלופות הבאות:
- א. הפקדה של 100 ₪ לשנה במשך שנתיים ומתום שנה שלישית 200 ₪ לשנה למשך 4 שנים.
- ב. הפקדה חד פעמית של 850 ₪ בתום שנה רביעית. הריבית השנתית היא 3%, איזו חלופה עדיפה?
- 34** כמה עליי להפקיד היום בתוכנית חיסכון הנושאת ריבית של 0.5% לחודש, באם אני מעוניין שבפירעון התוכנית בתום שנתיים וחצי מהיום יעמוד לזכותי סך של 5000 ₪?
- 35** לקוח מפקיד סכום מסוים בתחילת כל חודש למשך שנתיים וזאת על מנת שיוכל להנות מקצבה של 3000 ₪ כל חודש למשך שנה אך החל מתום שנה רביעית. מה הסכום הקבוע שעליו להפקיד, באם הריבית 1% לחודש?
- 36** ברצונך להגיע לסכום של 100,000 ₪ בעוד 10 שנים מהיום. לשם כך הפקדת היום 20,000 ₪ באופן חד פעמי ל-10 שנים ובנוסף לכך הפקדת במשך 36 החודשים הראשונים 100 ₪ בסוף כל חודש. ריבית 0.5% לחודש. האם הצלחת לעמוד ביעד?
- P.V חד פעמי:**
- 37** זכייה בהגרלה מבטיחה את התקבולים הבאים: 100 ₪ היום, 200 ₪ נוספים לאחר שנה, 300 ₪ בתום שנה שישית. מה שווי הכרטיס היום בהנחה שהריבית היא 1% לשנה בשנה הראשונה, 3% לשנה בשלוש השנים לאחר מכן ו-5% בשאר השנים?
- 38** לקוח עתיד לקבל מענק התמדה של 15,000 ₪ בתום 13 שנות עבודה במפעל. שער הריבית במשק עומד על 4%. מה ערכו הנוכחי של המענק?
- 39** לקוח עתיד לקבל מענק התמדה של 15,000 ₪ בתום 13 שנות עבודה במפעל. שער הריבית במשק עומד על 4% לשנה בחמש השנים הראשונות ולאחר מכן 5% לשנה בשאר השנים. מה ערכו הנוכחי של המענק?
- 40** אביו של יהל הפקיד עבורו היום 2,500 ₪ ובתום 6 שנים הפקיד 2,500 ₪ נוספים. התוכנית נושאת תשואה שנתית של 3.5%. מה שווי ההפקדות היום?

- 41** אביו של יהל הפקיד עבורו היום 2,500 ₪ ובתום 6 שנים הפקיד 2,500 ₪ נוספים. התוכנית נושאת תשואה שנתית של 3.5% בשנה הראשונה, 5% בשנתיים לאחר מכן ו-10% בשאר השנים. מה שווי ההפקדות היום?
- 42** דור פתח תוכנית חיסכון לקראת הגיוס כאשר היום הפקיד 15,000 ₪ בתום 3 שנות שירות הצטבר לזכותו סכום של 16,390 ₪. מה שיעור התשואה השנתי שלה זכה דור?
- 43** דור פתח תוכנית חיסכון לקראת הגיוס כאשר היום הפקיד 15,000 ₪ ובתום 4.5 שנות שירות (חובה + קבע) הצטבר לזכותו סכום של 16,390 ₪. ידוע כי במועד השחרור קיבל מענק של 750 ₪. מה שיעור התשואה השנתי שלה זכה דור?
- 44** נהג אוטובוס מפריש לחיסכון סכום של 300 ₪ כל שנה שנייה החל מעוד שנה ובמשך 4 פעמים. מה שווי ההפקדות היום, באם הריבית 0.3% לשנה?
- 45** נהג אוטובוס מפריש לחיסכון סכום של 300 ₪ כל שנה שנייה החל מעוד שנה ובמשך 4 פעמים. מה שווי ההפקדות היום, באם הריבית 3% לשנה בארבע השנים הראשונות ולאחר מכן הריבית צונחת ל-1%?
- 46** חשב את הערך הנוכחי של 600 ₪ לשנה שיתקבלו בסוף כל שנה במשך 3 שנים אם ידוע ששער ההיוון השנתי הוא 5% לשנה.
- 47** חשב את הערך הנוכחי של 600 ₪ לשנה שיתקבלו בסוף כל שנה במשך 3 שנים אם ידוע ששער ההיוון השנתי הוא 5% לשנה בשנה הראשונה, 3% לשנה בשנה השנייה ו-1% בשנה האחרונה.
- 48** אלכס עתיד לקבל את תווי השי הבאים לקראת החגים: 100 ₪ בעוד חודש ו-300 ₪ בעוד 3.5 חודשים מהיום. שער הריבית החודשי במשק 1.5%. מה שווי תווי הקניות היום?
- 49** אלכס עתיד לקבל את תווי השי הבאים לקראת החגים: 100 ₪ בעוד חודש, 100 ₪ בעוד חודשיים ו-300 ₪ בעוד 3.5 חודשים מהיום. שער הריבית במשק 1.5% לחודש הראשון וידוע כי הריבית גדלה ב-1% לחודש. מה שווי תווי הקניות היום?

- (50)** ניתן לרכוש מוצר ב-1000 ₪ במזומן, או ב-3 תשלומים שנתיים של 360 ₪ כל אחד (תשלום ראשון בקניה). שער הריבית במשק 5% לשנה. האם כדאי לקנות במזומן או בתשלומים?
- (51)** ניתן לרכוש מוצר ב-1000 ₪ במזומן, או ב-3 תשלומים שנתיים של 360 ₪ כל אחד (תשלום ראשון בסוף שנה ראשונה). שער הריבית במשק 5% לשנה. האם כדאי לקנות במזומן או בתשלומים?
- (52)** מהו הערך הנוכחי של התזרים הבא: 500 ₪ בתום שנה ראשונה ושנייה ו-1000 ₪ בתום שנה שלישית ורביעית, בהנחה שהריבית היא 2% בשנה הראשונה והיא גדלה ב-1% כל שנה.
- (53)** לקוח עתיד לקבל סכום של 250 ₪ בתום שנתיים מהיום וסכום נוסף של 500 ₪ בתום 6.5 שנים. מה ערכם הנוכחי של הסכומים באם הריבית היא 1% לשנה בשנה הראשונה ולאחר מכן יורדת ל-0.5%?

P.V סדרתי:

- (54)** הפקדת סכום של 100 ₪ כל חודש למשך שנה בריבית של 2% לחודש. מה ערכם הנוכחי של ההפקדות?
- (55)** הפקדת סכום של 100 ₪ בתחילת כל חודש למשך שנה בריבית של 2% לחודש. מה ערכם הנוכחי של ההפקדות?
- (56)** עו"ד מפריש לקופת גמל 200 ₪ כל חודש למשך 3 שנים. מה שווי הקופה היום באם הריבית החודשית 1% לחודש?
- (57)** עו"ד מפריש לקופת גמל 200 ₪ בתחילת כל חודש למשך 3 שנים. מה שווי הקופה היום באם הריבית החודשית 1% לחודש?
- (58)** עו"ד מפריש לקופת גמל 200 ₪ כל חודש למשך 3 שנים. מה שווי הקופה היום באם הריבית החודשית 3% במהלך השנה הראשונה ולאחר מכן הריבית יורדת ל-2% בחודש?
- (59)** מר מאגדי מפקיד 500 ₪ כל חודש למשך שנה. הריבית החודשית בתוכנית חסכון היא 1% לחודש. מה ערכם הנוכחי של ההפקדות?

- 60** מר מאגדי מפקיד 500 ₪ כל חודש למשך שנה. הריבית החודשית בתוכנית חסכון היא 1% לחודש בארבעת החודשים הראשונים ו-2% לחודש בשאר החודשים.
מה ערכם הנוכחי של ההפקדות?
- 61** גברת שושי מפקידה 200 ₪ כל חודש למשך 3 שנים ובשנתיים לאחר מכן מפקידה 400 ₪ לחודש. הריבית החודשית בתוכנית חסכון היא 1% לחודש. חשב את ערכם של ההפקדות היום.
- 62** לקוחה מפקידה 100 ₪ כל חודש למשך שנתיים ובשנה לאחר מכן מפקידה 200 ₪ לחודש. הריבית החודשית בתוכנית חסכון היא 0.5% לחודש בשנתיים הראשונות ו-1.5% לחודש בשאר התקופות.
חשב את ערכם של ההפקדות היום.
- 63** לקוחה מפקידה 100 ₪ כל חודש למשך שנתיים ובשנה לאחר מכן מפקידה 300 ₪ לחודש. הריבית החודשית בתוכנית חסכון היא 2% לחודש בשנתיים הראשונות ו-4% לחודש בשאר התקופות.
חשב את ערכם של ההפקדות היום.
- 64** ליעד פתח תוכנית חסכון ל-5 שנים. במהלך השנתיים הראשונות הפקיד 1,000 ₪ לחודש. ב-3 השנים שאחר כך הוכפל סכום ההפקדה. הריבית החודשית 1% לחודש. מה שווי החסכון במונחי ערך נוכחי?
- 65** ליעד פתח תוכנית חסכון ל-5 שנים והפקיד בה היום 80,000 ₪. במהלך השנתיים הראשונות מהחיסכון סכום מסוים כל חודש וב-3 השנים שאחר כך משך סכום כפול. הריבית החודשית 1% לחודש.
מה היה סכום המשיכה בשנה הרביעית?
- 66** ליעד פתח תוכנית חסכון ל-5 שנים והפקיד בה היום 80,000 ₪. במהלך השנתיים הראשונות מהחיסכון סכום מסוים כל חודש וב-3 השנים שאחר כך משך סכום כפול. בתום המשיכה האחרונה גילה להפתעתו כי נותר בחשבון סכום של 2000 ₪. הריבית החודשית 1% לחודש.
מה היה סכום המשיכה בשנה השלישית?
- 67** אורית, יועצת מס מוסמכת הפקידה לעובדיה 700 ₪ לחודש בקרן השתלמות למשך שנתיים. במהלך השנתיים לאחר מכן לא הפקידה כלל ומתום שנה רביעית חזרה להפקיד והעלתה את סכום ההפקדה ל-1000 ₪ לחודש למשך שנתיים נוספות.
מה שווי ההפקדות במונחי ערך נוכחי באם הריבית 2% לחודש?

- 68** לקוח מפקיד בתחילת כל חודש 100 ₪ למשך שנה ו-200 ₪ בסוף כל חודש למשך שנה במהלך השנה השנייה. שיעור התשואה החודשי 2%. מה שווי הנוכחי של ההפקדות?
- 69** זכית בטוטו בסכום של 4,000,000 ₪. מציעים לך לקבל את כל הסכום בתשלום מיידי אחד או לקבל סכום קבוע בסוף כל שנה למשך 40 שנים. הריבית השנתית 6%. מה הסכום הקבוע השנתי שעליך לדרוש?
- 70** לווה קיבל הלוואה לפני 10 שנים. ההלוואה נפרעת בתשלומים חודשיים שווים בריבית של 1% לחודש. היום לאחר ביצוע התשלום החודשי נותרו 36 תשלומים חודשיים של 1,500 ₪ כל אחד. אם הלווה רוצה לפרוע בפירעון מוקדם, את יתרת החוב, כמה יצטרך לשלם?
- 71** מחיר המוצר בקטלוג 14,000 ₪. ניתן לקבל הנחת מזומן 10% או לשלם 7 תשלומים חודשיים של 2,000 ₪ בכל תשלום. הנח כי הריבית במשק היא 2% לחודש. האם עסקת האשראי כדאית?
- 72** חברת "מאג" למשלוחים בינ"ל מעוניינת להתייעל לחמשת השנים הבאות ומתלבטת בין 2 חלופות:
- א. השקעה במחשב על שעלותו 50,000 ₪ אך נדרש לתחזוקה שנתית בסך 4,000 ₪ לשנה.
- ב. המשך עבודה עם המחשב הקיים הנושא עלות אחזקה שנתית של 13,000 ₪. מחיר ההון של החברה 4%, באיזו אפשרות תבחר?
- 73** לקוח הפקיד סכום מסוים היום וזאת על מנת שיוכל להנות מקצבה קבועה של 100 ₪ כל חודש למשך שנתיים, אך החל מעוד שנתיים מהיום, הריבית היא 1% לחודש. מה הסכום שעליך להפקיד היום?
- 74** אופיר מתכנן להפקיד כל חודש סכום מסוים במשך שנה. חודש לאחר ההפקדה האחרונה מתכנן למשוך סכום הגדול ב-300 ₪ מסכום ההפקדה החודשית. המשיכות יימשכו למשך שנה. הריבית החודשית בתקופת ההפקדות שווה ל-3% ואילו הריבית החודשית בתקופת המשיכות שווה ל-1%. כמה כסף יצטבר לאופיר לאחר שנה של הפקדות?
- 75** משפחה קיבלה הודעת חיוב לתשלום ארנונה על סך 6,000 ₪ אותו עליה לשלם בעוד 6 חודשים מהיום, אך אם הסכום ישולם היום תקבל המשפחה הנחה של X%. הנח שהתשואה האלטרנטיבית היא 3.5% לחודש, מהו שיעור ההנחה המינימלי שתדרוש המשפחה על מנת להקדים את התשלום בשישה חודשים?

76 יהל מעוניין להבטיח לעצמו הכנסה חודשית בסך 3,000 ₪ כל חודש במשך 6 שנים, החל מבעוד שנתיים. מהו הסכום במזומן אותו עליו להפקיד היום בתוכנית חיסכון, אם התוכנית נותנת תשואה של 1% לחודש בשנה הראשונה ולאחר מכן הריבית עולה ל-2%.

P.V סדרתי אינסוף:

77 הפקדת סכום של 100 ₪ בכל תחילת חודש לצמיתות בריבית של 1% לחודש. מה ערכם הנוכחי של ההפקדות?

78 הפקדת סכום של 100 ₪ בכל חודש לצמיתות בריבית של 1% לחודש. מה ערכם הנוכחי של ההפקדות?

79 דירת מגורים בפלורנטין מניבה שכ"ד של 200 אש"ח בשנה לצמיתות. הדירה מוצעת למכירה במחיר של 4000 אש"ח. מה שיעור התשואה על הנכס?

80 דירת מגורים בפלורנטין מניבה שכ"ד של 200 אש"ח בשנה לצמיתות. הדירה מוצעת למכירה במחיר של 4000 אש"ח. מה שיעור התשואה על הנכס בהנחה ששכ"ד משולם בכל תחילת שנה?

81 מה הסכום המרבי שכדאי להפקיד בתחילת השנה, אם מתקבלת הכנסה של 13 אש"ח לצמיתות, והריבית במשק 2.5% לשנה?

82 אם חוסך נדרש להפקיד 25,000 ₪ בתחילת השנה, כדי לקבל הכנסה שנתית של 1,000 ₪ לצמיתות, מה הריבית במשק?

83 אם חוסך נדרש להפקיד 25,000 ₪ בתחילת השנה, כדי לקבל הכנסה של 1,000 ₪ לצמיתות בתחילת כל שנה, מה הריבית במשק?

84 נכס מניב שכ"ד של 300 ₪ כל שנה לצמיתות. הנח ששכ"ד האחרון התקבל לפני חצי שנה. מה שווי הנכס היום, בהנחה ששיעור התשואה 4% לשנה?

85 מוצע לפרט, לבחור אחת משתי אפשרויות:

א. הכנסה חודשית של 300 ₪ למשך 10 שנים ראשונות, ומאז הכנסה חודשית של 40 ₪ לצמיתות.

ב. הכנסה חודשית של 320 ₪ עד לאינסוף. הריבית החודשית 1% לחודש. איזו חלופה עדיפה?

- 86** מוצע לפרט, לבחור אחת משתי אפשרויות:
- א. הכנסה חודשית של 300 ₪ למשך 10 שנים ראשונות, ומאז הכנסה חודשית של 40 ₪ לצמיתות.
- ב. קבלת הכנסה מסוימת כל חודש עד לאינסוף.
- הריבית החודשית 1% לחודש.
- מה הסכום שעליי לקבל כדי ליצור אדישות בין החלופות?
- 87** חברה מחלקת דיבידנד בסוף כל שנה. הדיבידנד האחרון שחולק היה 100 ₪. שיעור התשואה הנדרש על מניות החברה הוא 4% לשנה. נניח שמדיניות החברה תמשך לעולם. מה שווי מניית החברה בהנחה שהדיבידנד האחרון חולק היום?
- 88** חברה מחלקת דיבידנד בסוף כל שנה. הדיבידנד האחרון שחולק היה 100 ₪. שיעור התשואה הנדרש על מניות החברה הוא 4% לשנה. נניח שמדיניות החברה תמשך לעולם. מה שווי מניית החברה בהנחה שהדיבידנד האחרון חולק לפני רבע שנה?
- 89** בסוכנות רכב קיבלת את ההצעה הבאה:
- א. קבלת שובר דלק בשווי של 250 ₪ בכל תחילת חודש לצמיתות.
- ב. קבלת X% הנחה ממחיר הרכב שעומד על 180,000 ₪.
- הריבית החודשית האלטרנטיבית עומדת על 1%.
- מה אחוז ההנחה שישאיר את הלקוח אדיש בין האלטרנטיבות?
- 90** מר מאגדי מעוניין להבטיח לעצמו הכנסה של 2500 ₪ לשנה במשך 10 שנים ולאחר מכן הכנסה של 3000 ₪ לצמיתות כך שההכנסה הראשונה של 3000 ₪ תתבצע לאחר 4 שנים מההכנסה האחרונה של 2500 ₪. הריבית 2% לשנה בחמש השנים הראשונות ולאחר מכן עולה ל-4%. מהו סכום ההפקדה שנדרש ממר מאגדי להפקיד היום בתוכנית חיסכון?

צמיחה לאינסוף:

- 91** חברה מחלקת דיבידנד קבוע של 10 ₪ כל שנה החל מעוד שנה ההולך וצומח בשיעור של 10% לשנה. מה ערכה הנוכחי של המניה באם שיעור התשואה עליה 20%?
- 92** חברה מחלקת דיבידנד קבוע של 10 ₪ כל שנה החל מהיום ההולך וצומח בשיעור של 10% לשנה. מה ערכה הנוכחי של המניה באם שיעור התשואה עליה 20%?

- 93** חברה מחלקת דיבידנד קבוע של 10 ₪ כל שנה החל מעוד שנה ההולך וצומח בשיעור של 5% לשנה בשנתיים הראשונות ולאחר מכן צומח בשיעור של 10% לשנה לצמיתות.
מה ערכה הנוכחי של המניה באם שיעור התשואה עליה 20%?
- 94** פירמה מחלקת דיבידנד קבוע כל רבעון, כאשר אתמול חולק דיבידנד בסך 20 ₪ למניה, הדיבידנד צומח כל רבעון ב-3%.
מה שיעור התשואה השנתי הנדרש על המניה באם ידוע כי המניה נסחרת בשוק ב-400 ₪?
- 95** פירמה מחלקת דיבידנד קבוע כל רבעון בסך 20 ₪ למניה. הדיבידנד צומח כל רבעון ב-3%.
מה שיעור התשואה השנתי הנדרש על המניה באם ידוע כי המניה נסחרת בשוק ב-400 ₪?
- 96** בתאריך 1/1/2011 נסחרה מניית חברת "אופיר מאגדי השקעות" בע"מ במחיר 400 ₪, לאחר שביום 31/12/2010 חילקה החברה דיבידנד בסך 20 ₪ בגין שנת 2010. התשואה על מניות החברה היא 15% לשנה.
מהו הדיבידנד הבא שתחלק החברה בסוף השנה הקרובה, בהנחה שהדיבידנד גדל כל שנה בשיעור צמיחה קבוע?
- 97** מודל גורדון הינו:
- מודל המניח כי מחיר המניה תלוי במבנה ההון של הפירמה.
 - מודל המניח כי הדיבידנד שמשלמת החברה אינו משפיע על מחיר המניה.
 - מודל שבאמצעותו ניתן לחשב את מחיר המניה, בהנחה שהחברה משלמת דיבידנד בסכום קבוע לאורך תקופה נתונה וסופית.
 - מודל שבאמצעותו ניתן לחשב את מחיר המניה, בהנחה שהחברה משלמת דיבידנד הגדל בשיעור צמיחה קבוע לאורך תקופה אינסופית.
 - תשובות ג' ו-ד' נכונות.
- 98** חברת "מאגדי השקעות, ביטוח ופיננסים" בע"מ שילמה דיבידנד של 3 ₪ למניה בשנה החולפת. מחיר המניה מייד לאחר חלוקת הדיבידנד עמד על 50 ₪. ידוע כי החברה צומחת בשיעור של 4.5% לשנה.
מה מחיר ההון של החברה?
- 99** חברה ציבורית צפויה לשלם בשנה הקרובה דיבידנד של 10 ₪, הצומח בשיעור של 3% לשנה במשך שנתיים ולאחר מכן בשיעור של 6% לשנה לצמיתות. בכמה נסחרת המניה היום, אם שיעור התשואה 8% לשנה?

- 100** חברת "אופיר ובניו" אמורה לחלק עתה דיבידנד של 8 ₪ למניה. החברה צומחת בשיעור של 10% לשנה בכל אחת מהשנים הבאות ועד בכלל. שיעור התשואה בחברות דומות שווה ל-20% לשנה. מה שווי המניה היום, בהנחה שהדיבידנד הנוכחי טרם שולם?
- 101** קיים נכס המניב עד אין סוף הכנסה כל שנה. ידוע ששער הריבית השקלית הוא 6% לשנה. מה שווי הנכס היום אם ההכנסה השנתית 15,000 ₪.
- 102** קיים נכס המניב 1000 לצמיתות. ידוע ששער הריבית הוא 6% לשנה. מה שווי הנכס היום בהנחה שההכנסה השנתית מהנכס גדלה ב-2% לשנה בהשוואה לשנה שלפני כן.
- 103** קיים נכס המניב 1000 לצמיתות. ידוע ששער הריבית הוא 6% לשנה. מה שווי הנכס היום בהנחה שההכנסה השנתית מהנכס גדלה ב-2% לשנה בהשוואה לשנה שלפני כן וכי ידוע שההכנסה הראשונה התקבלה היום?
- 104** חברה מחלקת דיבידנד בסוף כל שנה. הדיבידנד גדל כל שנה ב-4% בהשוואה לשנה שלפני כן. מדיניות החברה תמשך מעתה ועד עולם. מחיר הון המתאים להערכת החברה הוא 12% לשנה. מה שווי המניה היום באם הדיבידנד הבא צפוי בעוד שנה והוא בסך 100 ₪.
- 105** חברה מחלקת דיבידנד בסוף כל שנה. הדיבידנד גדל כל שנה ב-4% בהשוואה לשנה שלפני כן. מדיניות החברה תמשך מעתה ועד עולם. מחיר הון המתאים להערכת החברה הוא 12% לשנה. מה שווי המניה היום באם הדיבידנד האחרון חולק היום בשווי של 100 ₪ ?
- 106** חברה מחלקת דיבידנד בסוף כל שנה. הדיבידנד גדל כל שנה ב-4% בהשוואה לשנה שלפני כן. מדיניות החברה תמשך מעתה ועד עולם. מחיר הון המתאים להערכת החברה הוא 12% לשנה. מה שווי המניה היום, באם הדיבידנד האחרון חולק לפני שנה?
- 107** משקיע בוחן רכישת קרקע לחניון. ההשקעה לזמן אינסופי. ההכנסה השנתית בסוף שנה ראשונה 100 אלף ₪. מחירי החניה צפויים לעלות ב-5% לשנה. מחיר ההון של המשקיע 12% לשנה. מהו שווי הקרקע?

108 חברה שוקלת רכישת קרקע. הקרקע תניב זרם תקבולים בגובה \$1,000 בתחילת שנה ראשונה. ההכנסה השנתית תגדל כל שנה ב-2% בהשוואה לשנה קודמת. ההשקעה לזמן אינסופי. ריבית ההיוון 10% לשנה. מה הערך הנוכחי של ההכנסות?

109 חברה שוקלת רכישת קרקע בעלות של \$110,000. הקרקע תניב זרם תקבולים בגובה \$5,000 בתחילת שנה ראשונה. ההכנסה השנתית תגדל כל שנה ב-2% בהשוואה לשנה קודמת. ההשקעה לזמן אינסופי. מה שיעור התשואה השנתי?

110 ברשותך מניה המשלמת דיבידנד בסך 200 ₪ בתום כל שנה. הדיבידנד ישולם לנצח. הדיבידנד האחרון חולק לפני חצי שנה. בהנחה ששיעור התשואה המקובל על השקעה מסוג זה הוא 12% לשנה. מה שווי המניה היום?

סדרה צומחת סופית:

111 פירמה מחלקת דיבידנד קבוע כל שנה למשך 10 שנים בלבד. הדיבידנד הבא שתחלק החברה יעמוד על 20 ₪ למניה. הדיבידנד צומח כל שנה ב-3% ושיעור התשואה על המניה 8%. מה שווי כלל הדיבידנדים היום?

112 פירמה צופה הכנסות שנתיות של 10,000 ₪. ידוע כי הפירמה צומחת כל שנה ב-5%. מה שווי הכנסות החברה בעוד 12 שנים באם ידוע כי מחיר ההון של הפירמה עומד על 10% לשנה?

תשובות סופיות:

2296.3 (4	1459 (3	1191 (2	418 (1
62,370 (8	3% (7	3% (6	3528.7 (5
1396.2 (12	2087.16 (11	233.79 (10	51,282 (9
481 (16	ב' (15	666 (14	1438.1 (13
45,620.6 (20	435.3 (19	431 (18	4310.3 (17
21,728.47 (24	124,923.3 (23	11,488.5 (22	31,641.5 (21
801.6 (28	124,746.12 (27	8075.17 (26	39,474 (25
1883.2 (32	1793.5 (31	1,565,946.6 (30	111,807.9 (29
לא (36	985.9 (35	4305.1 (34	א' (33
4533.75 (40	8344.6 (39	9008.6 (38	546 (37
4533.75 (44	3% (43	3% (42	4146 (41
480.3 (48	1675.5 (47	1633.9 (46	1087.4 (45
966.114 (52	980.3 (51	1029.3 (50	470.12 (49
60,216 (56	1078.6 (55	1057.5 (54	727 (53
5470.59 (60	5627.53 (59	4643.97 (58	60,817 (57
68,667 (64	3641.8 (63	4191.5 (62	11,960.5 (61
3483 (68	20,696.9 (67	2298.2 (66	2330 (65
ב' (72	לא (71	45,162 (70	265,851.3 (69
81,394 (76	18.6% (75	16,275.4 (74	1689.7 (73
5.26% (80	5% (79	8963.23 (78	10,100 (77
7648.5 (84	4.16% (83	4% (82	520 (81
2524.6 (88	2500 (87	221.22 (86	ב' (85
120 (92	100 (91	69,592.4 (90	14% (89
21.9 (96	36% (95	36.8% (94	92.1875 (93
96 (100	427.77 (99	10.77% (98	ד' (97
1250 (104	25,500 (103	25,000 (102	250,000 (101
13750 (108	1428 (107	1456 (106	1300 (105
268,514.4 (112	151 (111	1763.8 (110	6.8% (109

יסודות המימון ושימושם בשומת מקרקעין

פרק 2 - היוונים (ערך עתידי וערך נוכחי) בשיטת מחשבון פיננסי

תוכן העניינים

- 16 1. חישוב ערך עתידי לסכום חד פעמי
- 19 2. חישוב ערך עתידי לסדרה
- 21 3. חישוב ערך נוכחי לסכום חד פעמי
- 23 4. חישוב ערך נוכחי לסדרה
- 25 5. חישוב ערך נוכחי לסדרת ערכים אינסופית

חישוב ערך עתידי לסכום חד פעמי:

שאלות:

- (1) אופיר מאגדי הפקיד בתוכנית חיסכון 300 היום. כמה הצטבר לזכותו בתום 6 שנים, באם הריבית היא 5% לשנה?
- (2) אופיר מאגדי מפקיד 100 ₪ היום. כמה הצטבר לזכותו בתום 10 שנים, באם הריבית היא 2% לשנה?
- (3) מר מאגדי הפקיד היום 1,000 ₪ בתוכנית חיסכון סגורה ל-3 שנים. התוכנית נושאת תשואה שנתית של 6%. כמה יצטבר לזכותו בתום התוכנית?
- (4) אופיר הפקיד היום 1,000 ₪ בתוכנית חיסכון סגורה ל-3 שנים. התוכנית נושאת תשואה שנתית של 6%. לאחר 3 שנים סגר הלקוח את הכסף לשלוש שנים נוספות בריבית של 7% לשנה. כמה יצטבר לזכותו בתום 6 שנות חיסכון?
- (5) ליעד מאגדי הפקיד היום 1,000 ₪ ובתום שנתיים הפקיד 1,000 ₪ נוספים. התוכנית נושאת תשואה שנתית של 3.5%. כמה יצטבר לזכותו בתום 5 שנות חיסכון?
- (6) יהל מאגדי הפקיד היום 1,000 ₪ ובתום שנתיים הפקיד 1,000 ₪ נוספים. התוכנית נושאת תשואה שנתית של 3.5%. כמה יצטבר לזכותו בתום 8 שנות חיסכון?
- (7) דור פתח תוכנית חיסכון לקראת הגיוס כאשר היום הפקיד 15,000 ₪. בתום 3 שנות שירות הצטבר לזכותו סכום של 16,390 ₪. מה שיעור התשואה השנתי שלה זכה דור?
- (8) דור פתח תוכנית חיסכון לקראת הגיוס כאשר היום הפקיד 15,000 ₪. ובתום 4.5 שנות שירות (חובה + קבע) הצטבר לזכותו סכום של 16,390 ₪. ידוע כי במועד השחרור קיבל מענק של 750 ₪. מה שיעור התשואה השנתי שלה זכה דור?

- 9) סבתא דליה מעוניינת להוריש לשני נכדיה 100,000 ₪ בתום 10 שנים מהיום. לצורך כך הפקידה היום סכום מסוים. הריבית על ההפקדות 3% לשנה. מה סכום ההפקדה המקורי?
- 10) סבא דוד מפקיד 100 ₪ היום ובתום שנה ראשונה. הריבית השנתית 2% לשנה. כמה הצטבר לזכותו בתום 4 שנות חיסכון?
- 11) ניר, מהנדס מכוונות, עובד בבית אריזה והפריש לחיסכון סכום של 300 ₪ היום. כמה יצטבר לזכותו בתום 10 שנים, באם הריבית 8% לשנה?
- 12) אם אתה מעוניין לקבל הלוואה בסכום של 40,000 ₪ לתקופה של 3 שנים בריבית שנתית של 2.7%, מה יהיה סכום החזר הכולל בתום 3 שנים?
- 13) אם אתה מעוניין לקבל הלוואה בסכום של 30,000 ₪ לתקופה של 3 שנים בריבית חודשית של 0.7%, מה יהיה סכום החזר הכולל בתום 3 שנים?
- 14) אופיר השקיע 100 ₪ בתום שנה ראשונה ו-200 ₪ בתום שנה רביעית. כמה הצטבר לזכותו בתום שנה 5, באם הריבית היא 1% לשנה?
- 15) הוצע לך בבנק, אחת מההשקעות הבאות:
- א. הפקד היום סכום חד פעמי בסך 300 ₪ בריבית שנתית של 5%.
- ב. לחילופין ניתן להפקיד סכום חד פעמי של 250 ₪ בתום שנה חמישית ולקבל ריבית קבועה של 1% לשנה.
- איזו חלופה עדיפה באם החיסכון ייפרע בתום שנה עשירית?
- 16) מחירה של דירה בדרום ת"א עומד היום על 1,180,000 ₪. שער הריבית השנתי הוא 1.5%. מה יהיה שווי הדירה בעוד 8 שנים מהיום?
- 17) כמה עליי להפקיד היום בתוכנית חיסכון הנושאת ריבית של 0.5% לחודש, באם אני מעוניין שבפירעון התוכנית בתום שנתיים וחצי מהיום יעמוד לזכותי סך של 5000 ₪?

תשובות סופיות:

1459 (4)	1191 (3)	121.89 (2)	402 (1)
3% (8)	3% (7)	2546 (6)	2296.38 (5)
433,282.67 (12)	647.67 (11)	214.36 (10)	74,409.39 (9)
1,329,261.25 (16)	א' (15)	306 (14)	385,640.107 (13)
			-4305.14 (17)

חישוב ערך עתידי לסדרה:

שאלות:

- 18** יהל מאגדי מפקיד 100 ₪ כל שנה למשך 5 שנים.
כמה הצטבר לזכותו בתום 5 שנים, באם הריבית היא 2% לשנה?
- 19** יהל מאגדי מפקיד 100 ₪ בתחילת כל שנה למשך 5 שנים.
כמה הצטבר לזכותו בתום 5 שנים, באם הריבית היא 2% לשנה?
- 20** ליעד מפקיד 100 ₪ כל שנה למשך 4 שנים.
כמה הצטבר לזכותו בתום 4 שנים, באם הריבית היא 1% לשנה?
- 21** ליעד מפקיד 100 ₪ כל שנה למשך 4 שנים.
כמה הצטבר לזכותו בתום 10 שנים, באם הריבית היא 1% לשנה?
- 22** ליעד מפקיד 100 ₪ בתחילת כל שנה למשך 4 שנים.
כמה הצטבר לזכותו בתום 10 שנים, באם הריבית היא 1% לשנה?
- 23** לקוח חוסך 400 ₪ כל חודש למשך 5 שנים.
כמה יצטבר לזכותו בתום תקופת החיסכון, באם הריבית החודשית היא 2% לחודש?
- 24** לקוח חוסך 400 ₪ כל תחילת חודש למשך 5 שנים.
כמה יצטבר לזכותו בתום תקופת החיסכון, באם הריבית החודשית היא 2% לחודש?
- 25** גברת שושי מפקידה 300 ₪ כל חודש למשך 3 שנים. הריבית החודשית בתוכנית חיסכון היא 0.35% לחודש.
כמה יצטבר לזכותה בתום 3 שנים של חיסכון?
- 26** מר מאגדי מפקיד 300 ₪ כל חודש למשך 3 שנים.
הריבית החודשית בתוכנית חיסכון היא 0.35% לחודש.
כמה יצטבר לזכותו בתום 5 שנים מפתחת התוכנית, אם משך את כל הכסף שנתיים לאחר סיום ההפקדות?
- 27** גברת שושי מפקידה 200 ₪ כל חודש למשך 3 שנים ובשנתיים לאחר מכן מפקידה 400 ₪ לחודש. הריבית החודשית בתוכנית חיסכון היא 1% לחודש.
כמה יצטבר לזכותה בתום 5 שנות חיסכון?

- (28)** אתה עומד לפרוש בעוד 20 שנים מהיום. אתה מפריש לקרן פנסיה 800 ₪ בכל סוף שנה עד לגיל פרישה. בהנחת תשואה שנתית של 3%, כמה עתיד להצטבר לזכותך בגיל הפרישה?
- (29)** אתה עומד לפרוש בעוד 20 שנים מהיום. אתה מפריש לקרן פנסיה 800 ₪ בכל תחילת שנה עד לגיל פרישה. בהנחת תשואה שנתית של 3%, כמה עתיד להצטבר לזכותך בגיל הפרישה?
- (30)** חוסך הפקיד 2,000 ₪ לחודש בתוכנית חיסכון למשך 3 שנים. הריבית בתוכנית החיסכון 1% לחודש. בתום תקופת החיסכון קיבל החוסך מענק של 10% מסכום הפקדויותיו. כמה יקבל החוסך בתום תקופת החיסכון?
- (31)** חוסך מפקיד 100 ₪ כל חודש למשך שנה. כמה הצטבר לזכותו בתום שנתיים, באם הריבית 5% לחודש בשנה הראשונה ו-1% לחודש בשאר השנים?
- (32)** יהל מפקיד 100 ₪ בתחילת כל חודש למשך שנה. כמה הצטבר לזכותו בתום שנת חיסכון, באם הריבית 5% לחודש?
- (33)** פרט מתלבט בין החלופות הבאות:
- א. הפקדה של 100 ₪ לשנה במשך שנתיים.
- ב. לחילופין הפקדה חד פעמית של 250 ₪ בתום שנה רביעית. הריבית השנתית 3%, איזו חלופה עדיפה?

תשובות סופיות:

430.977 (21)	406 (20)	530.81 (19)	520.4 (18)
11,488.51 (25)	46,533 (24)	45,620.6 (23)	435.22 (22)
22,141.1 (29)	21,496.29 (28)	10,939.14 (27)	12,493.3 (26)
215.3 (33)	1671.29 (32)	1793.5 (31)	94,769.07 (30)

חישוב ערך נוכחי לסכום חד פעמי:

שאלות:

- 34** כמה אתה צריך להפקיד היום בחשבון הנושא ריבית שנתית של 4%, אם אתה רוצה שיתרת החשבון שלך בעוד 6 שנים מהיום תהיה 10,000 ₪?
- 35** כמה אתה צריך להפקיד בעוד שנה מהיום בחשבון הנושא ריבית שנתית של 3.5%, אם אתה רוצה שיתרת החשבון שלך בעוד 6 שנים מהיום תהיה 10,000 ₪?
- 36** כמה עליי להפקיד היום בתוכנית חיסכון הנושאת ריבית של 0.5% לחודש, באם אני מעוניין שבפירעון התוכנית בתום שנתיים וחצי מהיום יעמוד לזכותי סך של 5000 ₪?
- 37** זכייה בהגרלה מבטיחה את התקבולים הבאים:
 100 ₪ היום, 200 ₪ נוספים לאחר שנה.
 מה שווי הכרטיס היום בהנחה שהריבית היא 1% לשנה?
- 38** לקוח עתיד לקבל מענק התמדה של 15,000 ₪ בתום 13 שנות עבודה במפעל. שער הריבית במשק עומד על 4%. מה ערכו הנוכחי של המענק?
- 39** לקוח עתיד לקבל מענק התמדה של 15,000 ₪ בתום 13 שנות עבודה במפעל. שער הריבית במשק עומד על 4% לשנה בחמש השנים הראשונות ולאחר מכן 5% לשנה בשאר השנים. מה ערכו הנוכחי של המענק?
- 40** אביו של יהל הפקיד עבורו היום 2,500 ₪ ובתום 6 שנים הפקיד 2,500 ₪ נוספים. התוכנית נושאת תשואה שנתית של 3.5%. מה שווי ההפקדות היום?
- 41** אביו של יהל הפקיד עבורו היום 2,500 ₪ ובתום 6 שנים הפקיד 2,500 ₪ נוספים. התוכנית נושאת תשואה שנתית של 5% לשנה. מה שווי ההפקדות היום?

- (42)** דור פתח תוכנית חיסכון לקראת הגיוס כאשר היום הפקיד 15,000 ₪. בתום 3 שנות שירות הצטבר לזכותו סכום של 16,390 ₪. מה שיעור התשואה השנתי שלה זכה דור?
- (43)** דור פתח תוכנית חיסכון לקראת הגיוס כאשר היום הפקיד 15,000 ₪. ובתום 4.5 שנות שירות (חובה + קבע) הצטבר לזכותו סכום של 16,390 ₪. ידוע כי במועד השחרור קיבל מענק של 750 ₪. מה שיעור התשואה השנתי שלה זכה דור?
- (44)** אלכס עתיד לקבל את תווי השי הבאים לקראת החגים : 100 ₪ בעוד חודש ו-300 ₪ בעוד 3.5 חודשים מהיום. שער הריבית במשק 1.5%. מה שווי תווי הקניות היום?

תשובות סופיות:

298.01 (37)	4305.14 (36)	84 (35)	7903.1 (34)
4365.5 (41)	4553.7 (40)	8344.6 (39)	9008.6 (38)
	283.26 (44)	3% (43)	3% (42)

חישוב ערך נוכחי לסדרה:

שאלות:

45 חשב את הערך הנוכחי של 100 ₪ לשנה שיתקבלו בסוף כל שנה במשך 4 שנים אם ידוע ששער ההיוון השנתי הוא 5% לשנה.

46 חשב את הערך הנוכחי של 100 ₪ לשנה שיתקבלו בתחילת כל שנה במשך 4 שנים אם ידוע ששער ההיוון השנתי הוא 5% לשנה.

47 חשב את הערך הנוכחי של 600 ₪ לשנה שיתקבלו בסוף כל שנה במשך 3 שנים אם ידוע ששער ההיוון השנתי הוא 5% לשנה.

48 חשב את הערך הנוכחי של 600 ₪ לשנה שיתקבלו בתחילת כל שנה במשך 3 שנים אם ידוע ששער ההיוון השנתי הוא 5% לשנה.

49 ניתן לרכוש מוצר ב-1,000 ₪ במזומן או ב-3 תשלומים שנתיים של 360 ₪ כל אחד (תשלום ראשון בקניה). שער הריבית במשק 5% לשנה. האם כדאי לקנות במזומן או בתשלומים?

50 ניתן לרכוש מוצר ב-1,000 ₪ במזומן או ב-3 תשלומים שנתיים של 360 ₪ כל אחד (תשלום ראשון בסוף שנה ראשונה). שער הריבית במשק 5% לשנה. האם כדאי לקנות במזומן או בתשלומים?

51 מהו הערך הנוכחי של התזרים הבא :
תקבל 50 ₪ בתום כל שנה למשך 6 שנים בשער ריבית של 2%.

52 הפקדת סכום של 100 ₪ כל חודש למשך שנה בריבית של 2% לחודש. מה ערכם הנוכחי של ההפקדות?

53 הפקדת סכום של 100 ₪ בתחילת כל חודש למשך שנה בריבית של 2% לחודש. מה ערכם הנוכחי של ההפקדות?

54 עו"ד מפריש לקופת גמל 200 ₪ כל חודש למשך 3 שנים. מה שווי הקופה היום באם הריבית החודשית 1% לחודש?

- (55)** עו"ד מפריש לקופת גמל 200 ₪ בתחילת כל חודש למשך 3 שנים. מה שווי הקופה היום באם הריבית החודשית 1% לחודש?
- (56)** ד"ר מאגדי מפקיד 500 ₪ כל חודש למשך שנה. הריבית החודשית בתוכנית חיסכון היא 1% לחודש. מה ערכם הנוכחי של ההפקדות?
- (57)** לקוחה מפקידה 100 ₪ כל חודש למשך שנתיים ובשנה לאחר מכן מפקידה 200 ₪ לחודש. הריבית החודשית בתוכנית חיסכון היא 0.5% לחודש. חשב את ערכם של ההפקדות היום.
- (58)** לקוח לקח הלוואה היום בסך 8000 ₪ לתקופה של שנה בהחזרים חודשיים שווים. הריבית על ההלוואה 1% לחודש. מה השווי של החוזרים?
- (59)** זכית בטוטו בסכום של 4,000,000 ₪. מציעים לך לקבל את כל הסכום בתשלום מיידי אחד או לקבל סכום קבוע בסוף כל שנה למשך 40 שנים. הריבית השנתית 6%. מה הסכום הקבוע השנתי שעליך לדרוש?
- (60)** מחיר המוצר בקטלוג 14,000 ₪. ניתן לקבל הנחת מזומן 10% או לשלם 7 תשלומים חודשיים של 2,000 ₪ בכל תשלום. הנח כי הריבית במשק היא 2% לחודש, האם עסקת האשראי כדאית?
- (61)** לקוח הפקיד סכום מסוים היום וזאת ע"מ שיוכל ליהנות מקצבה קבועה של 100 ₪ כל חודש למשך שנתיים. הריבית היא 1% לחודש. מה הסכום שעליו להפקיד היום?

תשובות סופיות:

1715.6 (48)	1633.9 (47)	372.324 (46)	354.59 (45)
1057.5 (52)	280.07 (51)	980.3 (50)	1029 (49)
5627.5 (56)	6081.7 (55)	6021.5 (54)	1078.68 (53)
12,943.9 (60)	265,846.1 (59)	710.7 (58)	4317.7 (57)
			2124.3 (61)

חישוב ערך נוכחי לסדרת ערכים אינסופית:

שאלות:

- 62) הפקדת סכום של 100 ₪ בכל חודש לצמיתות בריבית של 1% לחודש. מה ערכם הנוכחי של ההפקדות?
- 63) הפקדת סכום של 100 ₪ בכל תחילת חודש לצמיתות בריבית של 1% לחודש. מה ערכם הנוכחי של ההפקדות?
- 64) הפקדת סכום של 400 ₪ בכל תחילת חודש לצמיתות בריבית של 4% לחודש. מה ערכם הנוכחי של ההפקדות?
- 65) הפקדת סכום של 800 ₪ בכל חודש לצמיתות, אך החל מעוד שנה מהיום בריבית של 1% לחודש. מה ערכם הנוכחי של ההפקדות?
- 66) דירת מגורים בפלורנטין מניבה שכ"ד של 200 אש"ח בשנה לצמיתות. הדירה מוצעת למכירה במחיר של 4000 אש"ח. מה שיעור התשואה על הנכס?
- 67) דירת מגורים בפלורנטין מניבה שכ"ד של 200 אש"ח בשנה לצמיתות. הדירה מוצעת למכירה במחיר של 4000 אש"ח. מה שיעור התשואה על הנכס בהנחה ששכ"ד משולם בכל תחילת שנה?
- 68) מה הסכום המרבי שכדאי להפקיד בתחילת השנה, אם מתקבלת הכנסה של 13 אש"ח לצמיתות והריבית במשק 2.5% לשנה?
- 69) אם חוסך נדרש להפקיד 25,000 ₪ בתחילת השנה כדי לקבל הכנסה שנתית של 1,000 ₪ לצמיתות, מה הריבית במשק?
- 70) אם חוסך נדרש להפקיד 25,000 ₪ בתחילת השנה כדי לקבל הכנסה של 1,000 ₪ לצמיתות בתחילת כל שנה, מה הריבית במשק?
- 71) נכס מניב שכ"ד של 300 ₪ כל שנה לצמיתות. מה שווי הנכס היום, בהנחה ששיעור התשואה 0.7% לשנה?

(72) מוצע לפרט לבחור אחת משתי אפשרויות:

א. הכנסה חודשית של 150 ₪ לצמיתות.

ב. הכנסה חודשית של 400 ₪ למשך 5 שנים.

הריבית החודשית 0.6% לחודש.

איזו חלופה עדיפה?

(73) חברה מחלקת דיבידנד בסוף כל שנה. הדיבידנד האחרון שחולק היה 100 ₪.

שיעור התשואה הנדרש על מניות החברה הוא 4% לשנה. נניח שמדיניות החברה

תימשך לעולם.

מה שווי מניית החברה בהנחה שהדיבידנד האחרון חולק היום?

(74) בסוכנות רכב קיבלת את ההצעה הבאה:

א. קבלת שובר דלק בשווי של 250 ₪ בכל תחילת חודש לצמיתות.

ב. קבלת X% הנחה ממחיר הרכב שעומד על 180,000 ₪.

הריבית האלטרנטיבית עומדת על 1%.

מה אחוז ההנחה שישאיר את הלקוח אדיש בין האלטרנטיבות?

תשובות סופיות:

71,703.8 (65)	10,400 (64)	10,000 (63)	15,000 (62)
4% (69)	520 (68)	5.2% (67)	5% (66)
2500 (73)	א' (72)	42,857.14 (71)	4.16% (70)
			14% (74)

יסודות המימון ושימושם בשומת מקרקעין

פרק 3 - ריבית

תוכן העניינים

1. כללי 27

ריבית:

שאלות:

- (1) לווה קיבל הלוואה של 500 ₪ בריבית שנתית של 12% מחושבת חודשית. מה הריבית האפקטיבית השנתית על ההלוואה?
- (2) לווה קיבל הלוואה של 700 ₪ בריבית שנתית של 12% מחושבת רבעונית. מה הריבית האפקטיבית השנתית על ההלוואה?
- (3) התקבלה הלוואה בריבית מוצהרת של 20% לשנה, המחושבת כל רבעון. הריבית משולמת בסוף כל רבעון והקרן בתום 10 חודשים. מה הריבית האפקטיבית השנתית של ההלוואה?
- (4) לקוח קיבל הלוואה של 300 ₪ בריבית שנתית של 16% מחושבת רבעונית. חשב את הריבית האפקטיבית השנתית על ההלוואה.
- (5) לקוח קיבל הלוואה של 100 ₪ בריבית שנתית של 18% מחושבת חודשית. חשב את הריבית האפקטיבית השנתית על ההלוואה.
- (6) לקוח קיבל הלוואה של 100 ₪ בריבית שנתית של 18% מחושבת חודשית. חשב את הריבית האפקטיבית השנתית על ההלוואה.
- (7) מר מאגדי הפקיד היום 100 ₪ ולהפתעתו הרבה נצבר בחשבונו סכום של 105 ₪ לאחר חצי שנה. מה הריבית האפקטיבית השנתית של התוכנית?
- (8) מר מאגדי הפקיד היום 200 ₪ ולהפתעתו הרבה נצבר בחשבונו סכום של 220.6 ₪ כעבור שנתיים וחצי. מה הריבית האפקטיבית השנתית של התוכנית?
- (9) חברה חייבת לבנק 12,000 ₪. החברה מציעה לבנק החזר בתום 30 חודשים, בסך של 14,500 ₪. בתנאים אלו מה הריבית האפקטיבית השנתית שמקבל הבנק?
- (10) לקוח התחייב לשלם סך של 1,800 ₪ בעוד 4.5 חודשים. לחילופין הלקוח יכול לקבל הנחה של 8% אם ישלם תוך חצי חודש. בתנאים אלו מה הריבית האפקטיבית השנתית?

- 11** חוסך הפקיד בבנק 10,000 ₪ לשלוש שנים וחצי. בתום התקופה קיבל 11,500 ₪. מה הריבית האפקטיבית השנתית שקיבל?
- 12** לקוח חייב לשלם סך של 7,500 בעוד חודש. לחילופין הלקוח יכול לשלם בעוד 6 חודשים 8,000 ₪. בתנאים אלה, אם ירצה לשלם את הסכום בתום שנה, בריבית אפקטיבית שנתית זהה, כמה ישלם?
- 13** חברה חייבת לבנק 12,000 ₪. החברה מציעה לבנק לקבל בתום 24 חודשים החזר בסך של 14,500 ₪. בתנאים אלו מה הריבית האפקטיבית השנתית שמקבל הבנק?
- 14** לווה החליט לבדוק הלוואות שונות. ההלוואה העדיפה ללווה על בסיס שנתי היא:
- א. 18% לשנה מחושב חודשי.
 ב. 22% לשנה.
 ג. 4.5% לרבעון.
- 15** ידוע שהריבית השנתית המוצהרת היא 36%. מהי הריבית האפקטיבית השנתית, כאשר חישוב הריבית מתבצע באופן רציף?
- 16** ידוע שהריבית השנתית המוצהרת היא 50%. מהי הריבית האפקטיבית השנתית, כאשר חישוב הריבית מתבצע באופן יומי?
- 17** ידוע שהריבית השנתית המוצהרת היא 36%. מהי הריבית האפקטיבית לרבעון, כאשר חישוב הריבית מתבצע באופן רציף?
- 18** ידוע שהריבית השנתית המוצהרת היא 40%. מהי הריבית האפקטיבית לשנתיים, כאשר חישוב הריבית מתבצע באופן רציף?
- 19** מה הערך הנוכחי של הכנסות מנכס המניב 800 ₪ אחת ל-6 שנים, החל מבעוד 6 שנים למשך זמן אינסופי? ידוע ששער הריבית במשק הוא 2% לשנה.
- 20** מה הערך הנוכחי של הכנסות מנכס המניב 800 ₪ אחת ל-6 שנים, החל מהיום למשך זמן אינסופי? ידוע ששער הריבית במשק הוא 2% לשנה.

- 21** מה הערך הנוכחי של הכנסות מנכס המניב 800 ₪ אחת ל-6 שנים, החל מבעוד 4 שנים למשך זמן אינסופי?
 ידוע ששער הריבית במשק הוא 2% לשנה.
- 22** חשב את הריבית האפקטיבית השנתית, בהנחה שהבנק גובה ריבית של 12% לשנה המחושבת כל:
 א. חודש.
 ב. רבעון.
 ג. חצי שנה.
- 23** הבנק מציע למפקידים לשנה את אחת מהחלופות הבאות:
 א. ריבית של 1.5% לחודש.
 ב. ריבית שנתית של 12% המחושבת כל רבעון.
 ג. ריבית של 4% לרבעון.
 איזה פיקדון תעדיף?
- 24** לקוח מפקיד סכום של 300 ₪ בכל תחילת חודש למשך שנתיים, התוכנית מציעה ריבית אפקטיבית שנתית של 12.7% במהלך השנה הראשונה ואילו לאחר מכן עולה הריבית ל-26.8% אפקטיבי לשנה.
 בתום חמש שנים החליט הלקוח לפרוע את הפיקדון, מה הסכום שקיבל?
- 25** אדון מאגדי מקבל הכנסה של 7000 ₪ כל רבעון לצמיתות מהשכרת נדל"ן מניב, ההכנסה הראשונה החל מעוד חודש מהיום.
 מה יהיה שווי הנכס היום בשוק בהנחה שהריבית האפקטיבית השנתית 8.24%?
- 26** העירייה מציעה לך לשלם את הארנונה בתשלום יחיד במזומן או ב-12 תשלומים חודשיים שווים, כאשר התשלום הראשון מייד, בתמורה לתשלום במזומן תקבל הנחה בגובה 22%.
 מה שער הריבית האפקטיבי השנתי הגלום בהצעה?
- 27** חשב את הריבית האפקטיבית השנתית שהבנק גובה במידה והריבית הנקובה 16% לשנה והיא מחושבת כל רבעון ובנוסף הבנק גובה ריבית של 10% לשנה, המחושבים בכל תחילת מחצית שנה.

- 28** לפרט מוצעות 2 אלטרנטיבות לנטילת הלוואה בגובה 50,000 ₪ לתקופה של שנה. איזו חלופה תבחר מבין האלטרנטיבות הבאות:
- א. ריבית מראש של 16% לשנה, מחושבת כל חצי שנה ובנוסף לכך ריבית שנתית נקובה של 4%, מחושבת כל רבעון.
- ב. ריבית מראש של 20% לשנה, מחושבת כל רבעון.
- 29** לפרט מוצעות 3 אלטרנטיבות לנטילת הלוואה בגובה 100,000 ₪ לתקופה של שנה:
- א. עמלת הקצאת אשראי של 6% לשנה.
- ב. ריבית מראש של 2% לחודש.
- ג. ריבית מראש של 4% לשנה ובנוסף לכך ריבית שנתית נקובה של 6%. איזו חלופה תבחר?
- 30** מה הריבית האפקטיבית השנתית של לקוח אשר לקח הלוואה בסך 100,000 ₪ מהבנק לתקופה של שנה, שילם עמלה עבור פתיחת תיק בסך 1000 ₪ ובנוסף ידוע כי הבנק גובה ריבית של 5% בסוף כל שנה?
- 31** ניתן לקבל הלוואה של 10,000 ₪ לשנה. יש לחשב את הריבית האפקטיבית השנתית כאשר הריבית השנתית מראש שיש לשלם היא בסך 1500 ₪.
- 32** מהי הריבית האפקטיבית השנתית שהבנק גובה באם ידוע כי הריבית השנתית היא 6% מראש ובנוסף 10% בסוף?
- 33** ניתן לקנות רכב שטח ולשלם 180,000 ₪ בהמחאה לעוד 3 שנים. לחילופין ניתן לקבל הנחה של 10% מהסכום העתידי ולשלם מיידית במזומן. מה שיעור הריבית האפקטיבית השנתית?
- 34** מהי הריבית האפקטיבית השנתית, כאשר ידוע שהריבית מראש השנתית היא 20%?
- 35** לווה ביקש הלוואה של 50,000 ₪ לשנה. הריבית על ההלוואה 1% לחודש. בנוסף הלווה משלם 750 ₪ מראש דמי טיפול בגין ההלוואה. מה הריבית האפקטיבית לתקופת ההלוואה?
- 36** לווה ביקש הלוואה של 50,000 ₪ לשנתיים. הריבית על ההלוואה 1% לחודש. בנוסף הלווה משלם 750 ₪ מראש דמי טיפול בגין ההלוואה. מה הריבית האפקטיבית לתקופת ההלוואה?

(37) בנק גובה ריבית של 24% לשנה מחושבת חודשית. בנוסף הבנק גובה 5% שנתי מראש עבור דמי פתיחת תיק ההלוואה ללא תלות במשך ההלוואה. מה הריבית האפקטיבית השנתית?

תשובות סופיות:

16.98% (4	21.55% (3	12.55% (2	12.68% (1
4% (8	10.25% (7	18% (6	19.56% (5
8644.9 (12	4.07% (11	28.42% (10	7.876% (9
64.8% (16	43.3% (15	הלוואה ג' (14	9.92% (13
7144.56 (20	6344.17 (19	121.5% (18	9.2% (17
12.36% ג. (26	12.55% ב. (25	12.68% א. (22	6600 (21
77% (26	354620 (25	17604.2 (24	חלופה א' (23
חלופה א' (29	22.7% ב. (32	22.9% א. (28	29.6% (27
3.5% (33	17.02% (32	17.64% (31	6.06% (30
33.49% (37	28.9% (36	14.39% (35	56.25% (34

יסודות המימון ושימושם בשומת מקרקעין

פרק 4 - תרגול חישובי ערך (היוונים וריביות) והערכת מניות

תוכן העניינים

1. שחזורי שאלות מתרגילים שבועיים וממבחנים 32

חישובי ערך (היוונים וריביות) והערכת מניות:

שאלות:

- (1) מאגדי השקיע סכום של 400,000 ₪ למשך 5 שנים בשתי תוכניות חיסכון, האחת נושאת ריבית שנתית בשיעור של 5%, והשנייה נושאת ריבית שנתית של 7% (הריבית נצברת לקרן בסוף כל שנה).
 ידוע כי בסוף התקופה קיבל מאגדי בגין 3 התוכניות סכום כולל של 529,453 ₪.
 נדרש:
 מהו הסכום שהשקיע מאגדי בכל אחת מתוכניות החיסכון?
- (2) בתאריך 1.1.2015 הפקיד ליעד סכום כסף כלשהו בתוכנית חיסכון. ידוע כי כעבור שנתיים נצבר לזכות ליעד סכום של 36,000 ₪, ואילו כעבור 4 שנים נצבר לזכותו סכום של 51,840 ₪.
 נדרש:
 חשב את שיעור הריבית השנתית שנושאת תוכנית החיסכון, ואת הסכום שהפקיד בה ליעד בתאריך 1.1.2015?
- (3) בתאריך 1.1.2015 הוצגו לפניך ההמחאות הבאות:

תאריך פירעון	סכום ההמחאה	מספר המחאה
30.6.2015	1,750 ₪	001
31.3.2015	1,200 ₪	002
30.9.2015	2,900 ₪	003
31.12.2015	3,600 ₪	004

הנח כי שיעור הריבית החודשית 2%.

נדרש:

- א. חשב את הערך של כל המחאה נכון ליום 1.1.2015.
 ב. מה צריך להיות הערך הנקוב על גבי המחאה שוות ערך לכל ההמחאות שלעיל, אשר צפויה להיפרע בתאריך 30.6.2015?

4) להלן תזרימי המזומנים הצפויים מ-3 נכסים שבבעלותך :

שנה	נכס א'	נכס ב'	נכס ג'
1	2,000 ₪		
2	2,000 ₪		
3	2,000 ₪	3,400 ₪	
4	2,000 ₪	3,400 ₪	
5	2,000 ₪	3,400 ₪	2,000 ₪
6			2,000 ₪
7			2,000 ₪

הנח כי תזרימי המזומנים מכל נכס מתקבלים בסוף השנה, וכי שיעור הריבית השנתית שלך הינו 8%.
נדרש :

איזה מן הנכסים מניב את הערך הנוכחי הגבוה ביותר של תזרימים הצפויים ממנו?

5) יהל הפקיד סכום חד פעמי בגובה 200 ₪ בתוכנית חיסכון נושאת ריבית שנתית בשיעור של 12%. הנח כי הריבית נצברת לקרן בסוף כל שנה.
א. מה הסכום שייצבר בתוכנית לאחר 6 שנים של חיסכון?
ב. ענה מחדש על סעיף א' במידה והריבית מחושבת בכל חודש.

6) לפניך מתוארות מספר אפשרויות לקבלת כספי זכייה בפיס :
א. סכום של 28,000 ₪ לשנה במשך 10 שנים, כאשר התשלום הראשון מבוצע בעוד שנה מהיום.
ב. סכום של 200,000 ₪ היום.
ג. סכום של 100,000 ₪ בעוד שנה, וסכום של 68,000 ₪ בעוד 4 שנים.
ד. סכום של 280,000 ₪ בעוד 5 שנים.
ה. סכום של 13,000 ₪ בסוף כל שנה לנצח.
הנח כי שיעור הריבית השנתית בשוק הינו 6%.
נדרש :
איזו חלופה תעדיף?

7) מוצעות לך שתי החלופות הבאות :
א. חלופה א'- תקבולים בגובה 2,000 ₪ לשנה בסוף כל שנה למשך 3 שנים, ולאחר מכן תקבולים בגובה 2,400 ₪ לשנה בסוף כל שנה למשך 10 שנים.
ב. חלופה ב'- קבלת סכום חד-פעמי בגובה 30,000 ₪ בעוד 5 שנים.
הנח כי שיעור הריבית השנתית בשוק 7%, איזו חלופה תעדיף?

8) מר אופיר מאגדי חוסך בסוף כל שנה סכום קבוע בגובה 8,500 ₪ למשך 20 שנה. הנח כי סכומי החיסכון זכאים לריבית שנתית בשיעור של 6% במשך 8 השנים הראשונות, ולריבית שנתית בשיעור של 8% במשך השנים שלאחר מכן. נדרש:

- מהו הסכום שייצבר למר אופיר מאגדי בתום תקופת החיסכון (בעוד 20 שנה)?
- מהו הסכום החד פעמי שעל מר ליעד מאגדי להפקיד היום בתוכנית החיסכון, כך שבעוד 20 שנה יצטבר לזכותו אותו הסכום כמו למר אופיר מאגדי?
- בתנאי סעיף א', הראה כי שיעור הריבית השנתית הקבוע שעל מר יהל מאגדי לדרוש, כך שבעוד 20 שנה יצטבר לזכותו אותו הסכום כמו למר אופיר מאגדי הינו 7.195%.

9) שווי תוכנית החיסכון הפנסיונית של גברת שוש הינו 250,000 ₪. שוש מתכננת להפקיד 25,000 ₪ בסוף כל שנה, החל מבעוד שנה בדיוק, למשך 25 שנה, עד צאתה לגמלאות. לאחר הפרישה, מתכננת שוש למשוך מהתוכנית, סכום שנתי קבוע במשך 25 שנה (המשיכה הראשונה כשנה לאחר פרישה). הנח כי שיעור הריבית השנתית המקובלת בשוק על תוכניות החיסכון הינו 10%. נדרש:

- מהו הסכום שייצבר לזכות שוש בעוד 25 שנה מהיום?
- מהו הסכום השנתי אותו תוכל למשוך שוש בכל אחת מהשנים לאחר פרישתה?

10) אופיר מאגדי בן 35 ומשמש כמנכ"ל "חשבשבת". לפי הסכם השכר שלו, צפויה לו בשנה הקרובה הכנסה בגובה 25,000 ₪. הכנסה זו צפויה לגדול מדי שנה בשיעור של 3%. הנח כי ההכנסה השנתית מתקבלת במלואה בסוף כל שנה, וכי שיעור הריבית במשק הינו 12% לשנה. נדרש:

- מהו הערך הנוכחי של ההכנסות הצפויות בהנחה שאופיר ממשיך לעבוד עד לגיל 60?
- מהו הערך הנוכחי של ההכנסות הצפויות בהנחה שאופיר ממשיך לעבוד עד לאינסוף?

11) לפני מספר ימים הודיע לך מר שועלי (העו"ד שלך) כי אחד מדודיך הרחוקים הוריש לך סכום כסף, וכי יש באפשרותך לבחור באחת מבין החלופות הבאות:

- קבלת 2 סכומים חד-פעמיים בגובה 400,000 ₪, האחד בעוד שנה וחצי מהיום, והשני בעוד 5 שנים וחודשיים מהיום.
- קבלת סכום שנתי קבוע בגובה 80,000 ₪ במשך 10 שנים, כאשר התשלום הראשון יחל היום.
- קבלת סכום חודשי קבוע בגובה 10,000 ₪ במשך 6 שנים, כאשר התשלום הראשון יחל בעוד שנה מהיום.
- קבלת סכום של 30,000 ₪ בעוד שנה מהיום, כאשר סכום זה ילך ויצמח מדי שנה בשיעור של 4.5% לנצח.

הנח כי מחיר ההון השנתי האפקטיבי 10%. מה החלופה המועדפת עבורך?

12 נתונים הנכסים הפיננסים הבאים, הנח ריבית חודשית של 2% :

- i. שיק מזומן על סכום של 100,000 ₪.
- ii. מזוודת עור יוקרתית שבתוכה שטרות כסף בסכום כולל של 100,000 ₪.
- iii. שני שיקים דחויים על סך 50,000 ₪ כל אחד, הראשון נפרע בעוד 3 חודשים והשני בעוד 5 חודשים.
- iv. מקדמה מיידית בגובה 60,000 ₪ ושיק דחוי על סכום של 40,000 ₪ שייפרע בעוד חודשיים.

נדרש :

- א. דרג את הנכסים הפיננסיים לפי סדר יורד של שוויים הכלכלי מהגבוה לנמוך.
- ב. ענה מחדש על סעיף א' בהנחה שהריבית בשוק הנה 0%.

13 מוצעות לך שתי החלופות הבאות :

- א. חלופה א' - קבלת 3,000 ₪ בעוד שנה, 6,000 ₪ בעוד שנתיים, ו-9,000 ₪ בעוד 3 שנים.
- ב. חלופה ב' - קבלת סכום חד-פעמי בגובה 21,000 ₪ בעוד 5 שנים. הנח כי שיעור הריבית השנתית בשוק 4%, איזו חלופה תעדיף?

14 הפקדת 10,000 ₪ בתוכנית חיסכון נושאת ריבית שנתית בשיעור של 5%.

נדרש :

- א. מהו הסכום שייצבר בתוכנית לאחר שנתיים ו-10 חודשים של חיסכון?
- ב. מהי תקופת החיסכון הנדרשת ע"מ שסכום ההפקדה ישלש את עצמו?

15 בנק מציע לך תוכנית חיסכון נושאת ריבית שנתית בשיעור של 5% למשך תקופה של 7 שנים. לרשותך סכום של 100,000 ₪, ואתה מתלבט האם להשקיע את כל הסכום בתוכנית חיסכון אחת או לפצל אותו ל-100 תוכניות קטנות בגובה 1,000 ₪ כל אחת, באותם תנאים בדיוק.

נדרש :

איזו תוכנית תעדיף?

16 בכוונתך לרכוש מערכת עיסוי ביתית משוכללת בסכום של 10,000 ₪.

לפניך מספר אפשרויות :

- א. חלופה א' (דחיית תשלומים) - תשלום מלוא הסכום בעוד חצי שנה מהיום.
- ב. חלופה ב' (חלוקת התשלומים) - תשלום של 500 ₪ בסוף כל חודש במשך 4 חודשים, ולאחר מכן תשלום של 1,000 ₪ כל חודש למשך 8 חודשים נוספים.
- ג. חלופה ג' (מזומן) - תשלום מלוא הסכום מראש וקבלת הנחת מזומן של 3% מסכום העסקה.

הנח כי שיעור הריבית החודשית בשוק 0.4%, איזה מסלול תעדיף?

- 17** יהל מאגדי הינו בחור צעיר בן 21 המתמחה בעריכת דין ומעוניין להפקיד כספים בקופה לפנסיה עד למועד פרישתו מהעבודה בגיל 67 ולשם כך הוצעו לו המסלולים הבאים:
- א. חלופה א' - הפקדות חודשיות בסך 2,000 ₪ במשך 9 השנים הקרובות בלבד.
 ב. חלופה ב' - הפקדות חודשיות בסך 2,000 ₪ החל מבעוד 9 שנים ועד למועד הפרישה. ידוע שקופת הפנסיה מעניקה ריבית שנתית אפקטיבית של 12.68% וכי כל הכספים ניתנים למשיכה במועד הפרישה. כל ההפקדות מבוצעות בתחילת כל חודש.
 נדרש:
 איזו חלופה תביא את יהל מאגדי לשווי הפנסיוני הגבוה ביותר במועד הפרישה?
- 18** שווי תוכניות החיסכון הפנסיוניות של אופיר נכון להיום הינו 96,000 ₪. אופיר מתכנן להפקיד 6,000 ₪ כל שנה במשך 25 שנה, עד לפרישה. שנה לאחר מכן, מתכנן אופיר למשוך מהתוכנית שחסך, סכום שנתי קבוע במשך 15 שנה. שיעור התשואה השנתי הממוצע על התוכנית 6%.
 נדרש:
- א. מהו הסכום שיצטבר לזכות אופיר בעוד 25 שנה מהיום?
 ב. מהו הסכום אותו יוכל למשוך אופיר בסוף כל אחת מ-15 השנים לאחר פרישתו?
- 19** אתה היום בן 37, והכנסותיך בשנה החולפת עמדו על 270,000 ₪. ע"פ החוזה שלך, ההכנסה צפויה לעלות בשיעור שנתי קבוע של 3% וכי הריבית במשק 7%.
 נדרש:
- א. מהו השווי היום של כל הכנסותיך העתידיות בהנחה שאתה ממשיך לעבוד עד גיל 67?
 ב. בהמשך לסעיף א', מהו השווי העתידי (בגיל 67) של כל הכנסותיך העתידיות?
- 20** יהל מאגדי, משקיע אוהב סיכון, משקיע במניה שממנה צפוי דיבידנד שנתי קבוע בגובה 14.5% לנצח. ידוע כי שיעור התשואה השנתי הנדרש על המניה הינו 10%.
 נדרש:
- א. מהו מחיר המניה היום?
 ב. כיצד תשתנה תשובתך לסעיף א' במידה ושיעור התשואה הנדרש על המניה הינו 8%?
 ג. כיצד תשתנה תשובתך לסעיף א' במידה והדיבידנד צפוי לצמוח בשיעור של 4% בכל שנה?

(21) ליעד מאגדי, משקיע אוהב סיכון, משקיע במניה שממנה צפוי דיבידנד שנתי קבוע בגובה 8 ₪ לנצח. ידוע כי שיעור התשואה השנתי הנדרש על המניה הינו 10%. נדרש:

- א. מהו מחיר המניה היום?
- ב. כיצד תשתנה תשובתך לסעיף א' אם ידוע כי החל מהשנה השלישית ואילך, יוכפל סכום הדיבידנד השנתי ויישאר ברמה זו לנצח?
- ג. כיצד תשתנה תשובתך לסעיף א' במידה והדיבידנד צפוי לצמוח בשיעור קבוע של 4% החל מהשנה השלישית לנצח?
- ד. כיצד תשתנה תשובתך לסעיף א' אם ידוע כי הדיבידנד גדל החל מהשנה השנייה בסכום של 1 ₪ במשך 3 שנים, ולאחר מכן בשיעור של 1% עד לאינסוף?

(22) מחיר המניה של חברה הינו 10 ₪. ידוע כי אתמול חילקה החברה דיבידנד בגובה 0.5 ₪ למניה, כאשר דיבידנד זה צפוי לגדול בשיעור של 2% מדי שנה. נדרש:

- א. מה היה מחיר המניה אתמול (התעלם מערך הזמן של יום אחד)?
- ב. הראה כי שיעור התשואה הנדרש על המניה הינו 7.1%.
- ג. חשב את מחיר המניה במידה ושיעור הצמיחה השנתי של המניה 6% במשך 3 השנים הראשונות ולאחר מכן שיעור הצמיחה יתייצב על 2% לשנה.

(23) חברה צפויה לשלם בשנה הבאה דיבידנד בסך 10 ₪ למניה. ידוע כי רווחי החברה צפויים לצמוח מדי שנה בשיעור של 5%, ושהיא משקיעה מחדש באופן קבוע 20% מהרווחים. עוד ידוע כי מחיר ההון המתאים לסיכון של המניה הינו 14%. נדרש:

- א. מהו הרווח למניה (EPS), הצפוי לחברה בשנה הבאה?
- ב. מה שיעור התשואה על ההון העצמי (ROE), של החברה?
- ג. מהו הערך הנוכחי של הזדמנויות הצמיחה (PVGO) של החברה?

(24) חברת "קוקוריקו", הנוהגת לחלק את כל רווחיה כדיבידנד, צופה לחלק בעוד שנה דיבידנד בגובה 8 ₪ למניה. ידוע כי מניה אחת של חברת "קוקוריקו" נסחרת כעת בשוק במחיר של 64 ₪. נדרש:

- א. מה מחיר ההון של מניית חברת "קוקוריקו"?
- ב. מר תרנגולי, מנכ"ל חברת "קוקוריקו", החליט לשנות את מדיניות ההשקעה של החברה, ולהשקיע בסוף כל שנה 25% מרווחיה בחזרה בחברה. ידוע כי שיעור התשואה על ההון העצמי (ROE) של החברה הינו 20%. חשב מהו שיעור הצמיחה השנתי הצפוי ומה יהיה מחיר המניה.
- ג. בהמשך לסעיף ב', מהו הערך הנוכחי של הזדמנויות הצמיחה של החברה (PVGO)?

25 במהלך שנת 2015 יצא מפעל הפיס במבצע המבטיח לזוכה בה סכום קבוע בסך 500 ₪ בסוף כל שבוע למשך 10 שנים. שער הריבית האפקטיבית השנתית 5.335%. נדרש:

- א. חשב את שיעור ההיוון שלך במונחי שבוע אחד (הנח כי בשנה 52 שבועות).
- ב. מה הסכום החד פעמי שעליך לקבל היום במקום האנונה השבועית?
- ג. האם היית מוכן לוותר על האנונה תמורת סכום של 260,000 ₪, כאשר מחצית מהסכום ישולם לך באופן מידי, 10% ישולם בעוד שנה, והיתרה בעוד 7.5 שנים?

26 מוצעת לך הלוואה בגובה 30,000 ₪ למשך תקופה של שנה, נושאת ריבית שנתית נקובה בשיעור של 12%.

חשב את הריבית האפקטיבית השנתית בכל אחת מהאפשרויות הבאות:

- א. הקרן והריבית מוחזרים בתשלום אחד בסוף השנה.
- ב. הקרן מוחזרת בסוף השנה והריבית משולמת בסוף כל רבעון.
- ג. הקרן מוחזרת בסוף השנה והריבית משולמת בסוף כל חודש.
- ד. הקרן מוחזרת בסוף השנה והריבית משולמת בסוף כל יום.

27 להלן נתונים לגבי תנאי החשבון המוצעים לכם בבנק "מאגדים":

- ריבית שנתית בשיעור של 12% על כל שקל אשראי שעד 100,000 ₪.
- ריבית שנתית בשיעור של 15% על כל שקל אשראי שמעל 100,000 ₪.
- ריבית החובה מחויבת בחשבון בסוף כל רבעון.
- עמלת הקצאת אשראי רבעונית בשיעור של 2% מגובה האשראי, מחויבת בחשבון בתחילת כל רבעון.

נדרש:

הראה כי שיעור הריבית האפקטיבית השנתית על אשראי בגובה 250,000 ₪, הנלקח מבנק "מאגדים" למשך תקופה של שנה הינו 24.16%.

28 בנק מציע הלוואה בגובה 40,000 ₪, נושאת ריבית שנתית נקובה בשיעור של 12%, הנפרעת ב-8 תשלומים חודשיים שווים. בנוסף, הבנק דורש עמלה בשיעור של 3% מסכום קרן הלוואה, המנוכה מראש.

נדרש:

הראה כי שיעור הריבית האפקטיבית השנתית הגלום בהלוואה המוצעת הינו 22.42%.

(29) בשוק האפור מוצעת הלוואת גישור למשך חודשיים שבמסגרתה ההלוואה נושאת ריבית שנתית נקובה של 12% מחושבת חודשית המשולמת בתום תקופת ההלוואה ("הלוואת בלון"). בנוסף, גובים בשוק האפור "דמי טיפול" בסך 1,000 ₪ המשולמים במועד קבלת ההלוואה, ודמי "סגירת עסקה" בסך 500 ₪ המשולמים בתום תקופת ההלוואה.
 נדרש:
 הראה כי שיעור הריבית האפקטיבית השנתית שתשלמו על הלוואה בסך 50,000 ₪ הינו 38.87%.

(30) להלן מודעה שפורסמה בעיתון:
 "רכוש היום, שלם מחר 100,000 ₪ במזומן, או 26,000 ₪ במזומן ועוד 12 תשלומים חודשיים שווים בגובה 7,000 ₪ כל אחד, כלומר ריבית שנתית בשיעור של 10% בלבד".
 נדרש:
 א. כיצד הגיע המפרסם לריבית שנתית בשיעור של 10%?
 ב. הראה כי שיעור הריבית השנתית האמיתית על קנייה בתשלומים הינו 26.8%.

(31) סבא אברי מעוניין לקחת הלוואה בסך 50,000 ₪, לפירעון בתשלום אחד של קרן וריבית. להלן ההצעות שקיבל:
 הלוואה מבנק חי-

- הלוואה נושאת ריבית שנתית נקובה בשיעור 10%, מחושבת כל רבעון.
- ההלוואה מאפשרת נקודות יציאה רבעוניות.
- במועד לקיחת ההלוואה יש לשלם עמלת הקצאת אשראי של 1.5% מסכום ההלוואה שנלקחה.

הלוואה מבנק מת-

- הלוואה נושאת ריבית שנתית אפקטיבית בשיעור של 10.6%.
- ההלוואה מאפשרת נקודות יציאה חודשיות.
- הבנק מחייב בתשלום מראש של 3.6% לכל התקופה מסכום ההלוואה שנלקחה.
- במידה וההלוואה תפרע תוך תקופה הקצרה מ-3 שנים, יזוכה הלווה, במועד פירעון החוב, בסכום יחסי של 0.1% מסכום ההלוואה המקורי בגין כל חודש הקדמה.

נדרש:

א. מהי הריבית האפקטיבית השנתית הגלומה בכל אחת מההצעות, בהנחה שפירעון ההלוואה בעוד 3 שנים?

(32) סבא אברי מעוניין לקחת הלוואה בסך 50,000 ₪, לפירעון בתשלום אחד של קרן וריבית. להלן ההצעות שקיבל:
 הלוואה מבנק חי-

- הלוואה נושאת ריבית שנתית נקובה בשיעור 10%, מחושבת כל רבעון.

- ההלוואה מאפשרת נקודות יציאה רבעוניות.

- במועד לקיחת ההלוואה יש לשלם עמלת הקצאת אשראי של 1.5% מסכום ההלוואה שנלקחה.

הלוואה מבנק מת -

- הלוואה נושאת ריבית שנתית אפקטיבית בשיעור של 10.6%.

- ההלוואה מאפשרת נקודות יציאה חודשיות.

- הבנק מחייב בתשלום מראש של 3.6% לכל התקופה מסכום ההלוואה שנלקחה.

- במידה וההלוואה תפרע תוך תקופה הקצרה מ-3 שנים, יזוכה הלווה, במועד פירעון החוב, בסכום יחסי של 0.1% מסכום ההלוואה המקורי בגין כל חודש הקדמה.

נדרש:

ב. מהי הריבית האפקטיבית השנתית הגלומה בכל אחת מההצעות, בהנחה שפירעון ההלוואה בעוד 9 חודשים?

תשובות סופיות:

			150,000 , 250,000 (1)
			25,000 , 20% (2)
	ב. 8,952.5	א. 2838.5 , 2426.5 , 1130.7 , 1553.9 (3)	
			א' (4)
		ב. 409.4	א. 394.76 (5)
			ה (6)
			ב' (7)
	ג. ראה סרטון	ב. 92,973.16	א. 373,155 (8)
		ב. 569,277.2	א. 5,167,352 (9)
		ב. 277,778	א. 243,565.84 (10)
			א' (11)
		ב. כל החלופות שקולות.	א. א/ב, ד, ג (12)
			ב' (13)
		ב. 22.5	א. 11,482.49 (14)
			אדישות. (15)
			ג' (16)
			א' (17)
		ב. 76,316.6	א. 741,206.5 (18)
		ב. 36,048,660.8	א. 4,735,608 (19)
	ג. 241.66	ב. 181.25	א. 145 (20)
ד. 114	ג. 128.48	ב. 146.11	א. 80 (21)
			ג. 11.16 (22)
	ג. 21.82	ב. 25%	א. 12.5 (23)
	ג. 16	ב. 5%	א. 12.5% (24)
	ג. 221,571.74	ב. 202,662.4	א. 0.1% (25)
ד. 12.74%	ג. 12.68%	ב. 12.55%	א. 12% (26)
			הוכחה. (27)
			הוכחה. (28)
			הוכחה. (29)
			הוכחה. (30)
			א. 11.96% , 10.93% (31)
			ב. 12.27% , 12.62% (32)

יסודות המימון ושימושם בשומת מקרקעין

פרק 5 - אינפלציה מדד ושינוי ברמת המחירים

תוכן העניינים

1. כללי 42

אינפלציה מדד ושינוי ברמת המחירים:

שאלות:

- (1) אופיר רכש דירה במחיר 300,000 ₪. בתום 8 שנים נמכר הנכס ב-550,000 ₪. מהו שיעור התשואה הנומינלית השנתית בהשקעה זו?
- (2) אופיר רכש דירה במחיר 300,000 ₪. בתום 8 שנים נמכר הנכס ב-550,000 ₪. מהו שיעור התשואה הריאלית השנתית, בהנחה שהמחירים עלו ב-2.5% כל שנה?
- (3) אופיר רכש דירה במחיר 300,000 ₪. בתום 8 שנים נמכר הנכס ב-550,000 ₪. שיעור התשואה הריאלית השנתית היה 1.8%. מה היה שיעור האינפלציה במשך 8 השנים?
- (4) חשב את הריבית הריאלית השנתית בהנחה שהריבית הנומינלית השנתית עומדת על 9% והאינפלציה השנתית במשך היא 3%.
- (5) חשב את הריבית הריאלית השנתית בהנחה שהריבית הנומינלית השנתית עומדת על 9% והאינפלציה הרבעונית במשך היא 3%.
- (6) חשב את הריבית הריאלית השנתית בהנחה שהריבית הנומינלית השנתית עומדת על 12% ומחושבת כל רבעון ובנוסף ידוע כי האינפלציה הרבעונית עומדת על 3%.
- (7) חברת "ליעד לעד" זקוקה לאשראי של 260,000 ₪. החברה חשבה לקחת הלוואה שקלית של 6%, ידוע כי ההלוואה צמודה למדד המחירים לצרכן שצפוי לעלות ב-8% בשנה הקרובה. מה הריבית שישלם הלקוח?
- (8) חברת "ליעד לעד" זקוקה לאשראי של 260,000 ₪. החברה חשבה לקחת הלוואה שקלית של 6%, ידוע כי ההלוואה צמודה למדד המחירים לצרכן שצפוי לעלות ב-8% בשנה הקרובה. מה הסכום הכולל שישלם הלקוח בתום ההלוואה?
- (9) חברת "ליעד לעד" זקוקה לאשראי של 260,000 ₪. החברה חשבה לקחת הלוואה בריבית קבועה של 13%, ידוע כי ההלוואה צמודה למדד המחירים לצרכן שצפוי להיות 0% בשנה הקרובה. מה הסכום הכולל שישלם הלקוח בתום ההלוואה?

- 10** מהו ההחזר שיהיה עליך להחזיר בתום שלוש שנים עבור הלוואה צמודה למדד של 25,000 ₪, בהנחה שהריבית הריאלית השנתית 1.5% והאינפלציה 0.4% לשנה?
- 11** מהו ההחזר שיהיה עליך להחזיר בתום שלוש שנים עבור הלוואה צמודה למדד של 25,000 ₪, בהנחה שהריבית הריאלית השנתית 1.5% והאינפלציה 0.4% לחודש?
- 12** מהו ההחזר שיהיה עליך להחזיר בתום שנתיים עבור הלוואה צמודה למדד של 20,000 ₪, בהנחה שהריבית הריאלית השנתית 2% והאינפלציה החזויה 3% בשנה הראשונה ו-1% בשנה השנייה?
- 13** מהו ההחזר שיהיה עליך להחזיר בתום שלוש שנים עבור הלוואה צמודה למדד של 10,000 ₪, בהנחה שהריבית הריאלית השנתית 4.5% והאינפלציה החזויה 1%- לשנה?
- 14** מר מאגדי הפקיד 50,000 ₪ בתוכנית חסכון. המדד צפוי לעלות ב-3%, 5% ו-8% כל שנה בהתאמה. הדולר צפוי לעלות ב-9% ב-3 השנים. כמה יקבל מר מאגדי בתום 3 שנים בהנחה שהריבית במשק 6.5% ותוכנית החיסכון צמודה לדולר?
- 15** מר מאגדי הפקיד 50,000 ₪ בתוכנית חסכון. המדד צפוי לעלות ב-3%, 5% ו-8% כל שנה בהתאמה. הדולר צפוי לעלות ב-9% ב-3 השנים. מה הריבית הריאלית השנתית בהנחה שהריבית במשק 6.5% ותוכנית החיסכון צמודה לדולר?
- 16** מר מאגדי הפקיד 50,000 ₪ בתוכנית חסכון. המדד צפוי לעלות ב-3%, 5% ו-8% כל שנה בהתאמה. הדולר צפוי לעלות ב-9% ב-3 השנים. כמה יקבל מר מאגדי בתום 3 שנים בהנחה שהריבית במשק 6.5% ותוכנית החיסכון צמודה למדד?
- 17** מה הריבית הריאלית השנתית באם ידוע כי הריבית השנתית 12% והמדד עלה ב-1% במחצית השנה הראשונה וב-3% במחצית השנייה של השנה.
- 18** מה הריבית הריאלית השנתית באם ידוע כי הריבית השנתית 12% מחושבת כל חודש והמדד עלה ב-2% במחצית השנה הראשונה וב-4% במחצית השנייה של השנה.
- 19** יהל הפקיד 5,000 ₪ ל-4 שנים בתוכנית צמודה למדד בריבית של 5% לשנה. המדד עלה ב-16% במהלך כל התקופה. כמה הצטבר לזכות יהל בתום 4 שנים?

- (20)** יהל הפקיד 10,000 ₪ ל-4 שנים בתוכנית צמודה למדד בריבית של 8% לשנה. המדד עלה ב-12% במהלך כל התקופה. מה הריבית הריאלית השנתית?
- (21)** חשב את הריבית הריאלית השנתית בהנחה שהמדד צפוי לעלות בשנה הקרובה ב-3.5% והריבית הנומינלית השנתית 8.4%.
- (22)** חשב את הריבית הנומינלית השנתית בהנחה שהמדד צפוי לעלות בשנה הקרובה ב-2.4% והריבית הריאלית השנתית 5.2%.
- (23)** חשב את הריבית הריאלית השנתית בהנחה שהמדד צפוי לעלות בשנה הקרובה ב-3.5% והריבית הנומינלית החודשית 2.1%.
- (24)** חשב את הריבית הנומינלית השנתית בהנחה שהמדד צפוי לעלות בשנתיים הקרובות ב-6.4% והריבית הריאלית הרבעונית 2.9%.
- (25)** חשב את המדד בכל חודש :

מזד המחירים לצרכן	תאריך פרסום המדד
102	15.06.2013
102.8	15.07.2013
102.5	15.08.2013
104.3	15.09.2013
105	15.10.2013
104.2	15.11.2013
106.9	15.12.2013

- (26)** הריבית ריאלית לשנה היא 6% והריבית הנומינלית לשנה 12%. מה האינפלציה החזויה לשנה?
- (27)** הריבית ריאלית לשנה היא 5% והריבית הנומינלית לחודש 1%. מה האינפלציה החזויה לשנה?
- (28)** משקיע מפקיד 100 ₪ כל חודש למשך שנה אך החל מעוד שנה מהיום. מה ערכם הנוכחי של ההפקדות באם ידוע כי הם צמודים למדד המחירים שצפוי להיות 2% לחודש וכן ידוע כי שיעור התשואה השנתי האפקטיבי עומד על 51.1%.

תשובות סופיות:

5.8% (4	58.9% (3	5.2% (2	7.87% (1
297,648 (8	14.48% (7	0% (6	-3.15% (5
21,646.5 (12	30,182 (11	30,182 (10	293,800 (9
70,545.4 (16	3.48% (15	65,833 (14	11,072.7 (13
4.98% (20	7049.9 (19	6.22% (18	7.66% (17
15.64% (24	23.98% (23	7.72% (22	4.73% (21
	2.59% , -0.76% , 0.67% , 1.75% , -0.29% , 0.78% (25		
	930.72 (28	7.31% (27	5.66% (26

יסודות המימון ושימושם בשומת מקרקעין

פרק 6 - שחזורי שאלות מימון בתנאי אינפלציה

תוכן העניינים

1. שחזורי שאלות ממבחנים בנושא אינפלציה ומדד 46

שחזורי שאלות מימון בתנאי אינפלציה:

שאלות:

- (1) בנק מציע ללקוחותיו הלוואה לא צמודה נושאת ריבית רבעונית אפקטיבית בשיעור של 8%. בהסתמך על תחזיות של כלכלנים רבים, צפוי מדד המחירים לצרכן לעלות בשנה הקרובה בשיעור של 3% בכל חודש.
 נדרש:
 חשב את שיעור הריבית השנתית הנומינלית הגלומה בהצעת הבנק ואת הריבית הריאלית במשק.
- (2) מוצעת לך הלוואה לא צמודה למשך שנה, נושאת ריבית שנתית נקובה בשיעור של 18%, אשר נצברת לקרן כל רבעון. הנח כי שיעור הריבית השנתית הריאלית שלך הינו 6.2%, וכי שיעור האינפלציה הצפוי הינו 12% לשנה.
 האם ההלוואה כדאית?
- (3) אופיר מעוניין לקנות לאשתו חבילת שוקולד וזר פרחים צבעוני בכל שבוע ביום שישי בעלות של 200 ₪ לצמיתות.
 • שיעור הריבית השנתית הנומינלית במשק הינו 10.4% (ריבית נקובה).
 • שיעור האינפלציה השנתית החזויה במשק הינו 3.9% (ריבית נקובה).
 • בשנה יש 52 שבועות.
 נדרש:
 מהו הסכום שעל אופיר להפקיד היום בכדי שיוכל לממש את החלטתו?
- (4) דור, חייל משוחרר (שירת בתל השומר בתפקיד ע.רס"ר בסיס) פנה לבנק בבקשה לקבל הלוואה לצורך רכישת רכב. המנהל הציע לדור 2 חלופות שונות לקבלת הלוואה:
 א. הלוואה צמודה בגובה 200,000 ₪, נושאת ריבית שנתית בשיעור של 10%, ונפרעת ב-8 תשלומים ריאליים שווים. כמו כן, עמלת הקצאת אשראי בסך 20,000 ₪ תשולם ביום לקיחת הלוואה.
 ב. הלוואה לא צמודה בגובה 200,000 ₪, נושאת ריבית שנתית בשיעור של X%, ונפרעת ב-8 תשלומים נומינליים שווים. אין עמלת הקצאת אשראי.
 הנח כי שיעור האינפלציה החזוי במועד לקיחת הלוואות הינו 5% לשנה. בדיעבד, התברר כי שיעור האינפלציה השנתית בפועל בכל אחת מ-8 השנים היה 3%.
 נדרש:
 א. מהו שיעור הריבית השנתית שנושאת הלוואה ב (מהו X)?
 ב. בדיעבד, איזו הלוואה כדאית יותר לדור?

5) שושי הפקידה 100,000 ₪ בתוכנית חיסכון צמודה למדד המחירים לצרכן. התוכנית היא לתקופה של 5 שנים, והיא נושאת ריבית שנתית בשיעור של 2%. ידוע כי במועד ההפקדה בתוכנית עמד המדד על 200 נקודות. נדרש:

בהנחה שמדד המחירים לצרכן עולה מדי שנה ב-50 נקודות, מה צפוי להיות השווי העתידי של התוכנית בתום תקופת החיסכון (בתום 5 שנים)?

6) בנק מציע ללקוחותיו חיסכון לא צמוד נושא ריבית רבעונית בשיעור של 1.2%. ידוע כי בהסתמך על תחזיות של כלכלנים רבים, צפוי מדד המחירים לצרכן לעלות בשנה הקרובה בשיעור של 0.15% בכל חודש. נדרש:

א. חשב את הריבית השנתית הנומינלית הגלומה בהצעת הבנק.

ב. חשב את הריבית השנתית שיציע הבנק על חיסכון צמוד לתקופה של שנה.

7) להלן נתונים לגבי שיעורי הריבית האפקטיבית השנתית שמציע הבנק:

מסלול לא צמוד	מסלול צמוד	
3.5%	1%	פיקדון
?	3%	הלוואה

הנח כי שיעור האינפלציה החזוי ע"י הבנק הינו זהה, הן עבור פיקדונות והן עבור הלוואות. נדרש:

א. הראה כי שיעור הריבית השנתית שמציע הבנק על הלוואות לא צמודות הינו 5.55%.

ב. למר שועלי סכום של 100,000 ₪.

מהו הערך הריאלי שיכול להשיג מר שועלי על סכום זה בעוד 3 שנים?

ג. למר ארנבי צפוי מענק כספי לא צמוד בגובה 100,000 ₪ בעוד 3 שנים.

מהו הסכום בפועל שיוכל לקבל מר ארנבי היום במקום המענק הצפוי לו?

תשובות סופיות:

1) 36.04% , -4.58%

2) לא

3) 160,120

4) א. 15.5% ב. הלוואה ב'.

5) 248,418.18

6) א. 4.887% ב. 3.017%

7) א. הוכחה. ב. 103,030 ג. 85,040

יסודות המימון ושימושם בשומת מקרקעין

פרק 7 - לוחות סילוקין

תוכן העניינים

48 1. כללי

לוחות סילוקין:

שאלות:

- (1) הצג את לוח הסילוקין להלוואה בסך 50,000 ₪ שנלקחה למשך 5 שנים בריבית שנתית של 12% ע"פ לוח שפיצר.
- (2) הצג את לוח הסילוקין להלוואה בסך 50,000 ₪ שנלקחה למשך 5 שנים בריבית שנתית של 12% ע"פ לוח סילוקין רגיל.
- (3) קיבלתם הלוואה בסך 10,000 ₪ ל-4 שנים בהחזרים חודשיים שווים (לוח שפיצר), בריבית שנתית אפקטיבית של 12.68%. בתום השנה השלישית החליט הבנק להעלות את הריבית האפקטיבית ל-26.8% לשנה. בעקבות העלאת הריבית החלטתם לפרוע את ההלוואה. מהו הסכום שנדרש לשלם לבנק?
- (4) לקוח לקח משכנתא על סך 100,000 ₪. המשכנתא נלקחה לתקופה של 3 שנים. היא נושאת ריבית פשוטה של 12% לשנה. המשכנתא נפרעת בתשלום חודשי קבוע בסוף כל חודש (לוח שפיצר), כאשר נוסף על הריבית נדרש לשלם בגין הוצאות הכרוכות בנטילת המשכנתא והמשולמות בתחילת התקופה סכום של 20,000 ₪. מהי הריבית האפקטיבית השנתית של המשכנתא בפועל?
- (5) לקוח פנה לבנק לקבלת הלוואה בסך 10,000 ₪. ההלוואה בריבית של 2% לחודש והיא נפרעת בתשלומים חודשיים שווים למשך שנתיים. מה יהיה ההחזר החודשי?
- (6) לקוח פנה לבנק לקבלת הלוואה בסך 30,000 ₪. ההלוואה בריבית של 1% לחודש והיא נפרעת בתשלומים חודשיים שווים למשך שנתיים. בתום החודש הרביעי מעוניין הלקוח לפרוע את ההלוואה, מה הסכום שעל הלקוח להחזיר?
- (7) לקוח פנה לבנק לקבלת הלוואה בסך 10,000 ₪. ההלוואה בריבית של 2% לחודש והיא נפרעת בתשלומים חודשיים שווים למשך שנתיים. מה יהיה ההחזר ע"ח הריבית בחודש השני?

- (8) לקוח פנה לבנק לקבלת הלוואה בסך 50,000 ₪. ההלוואה בריבית של 12% נקוב לשנה והיא נפרעת בתשלומים חודשיים שווים למשך שלוש שנים. הלקוח החליט לפרוע את ההלוואה בפירעון מוקדם לאחר שנה (12 תשלומים). כמה ישלם הלווה?
- (9) חברה קיבלה הלוואה של 60,000 ₪ ל-5 שנים בריבית של 12.68% אפקטיבי לשנה. ההלוואה נפרעת בתשלומים חודשיים שווים. מה מרכיב הקרן והריבית בתשלום ה-13?

תשובות סופיות:

26.8%	(4)	2784.38	(3)	ראה סרטון	(2)	ראה סרטון	(1)
35277.99	(8)	193.426	(7)	25485.1	(6)	528.1	(5)
						506.82	(9)

יסודות המימון ושימושם בשומת מקרקעין

פרק 8 - לוחות סילוקין בשיטת מחשבון פיננסי

תוכן העניינים

1. כללי 50

לוחות סילוקין בשיטת מחשבון פיננסי:

שאלות:

- (1) הצג את לוח הסילוקין להלוואה בסך 50,000 ₪ שנלקחה למשך 5 שנים בריבית שנתית של 12% ע"פ לוח שפיצר.
- (2) הצג את לוח הסילוקין להלוואה בסך 50,000 ₪ שנלקחה למשך 5 שנים בריבית שנתית של 12% ע"פ לוח סילוקין רגיל.
- (3) לקוח פנה לבנק לקבלת הלוואה בסך 10,000 ₪. ההלוואה בריבית של 2% לחודש והיא נפרעת בתשלומים חודשיים שווים למשך שנתיים. מה יהיה ההחזר החודשי?
- (4) לקוח פנה לבנק לקבלת הלוואה בסך 30,000 ₪. ההלוואה בריבית של 1% לחודש והיא נפרעת בתשלומים חודשיים שווים למשך שנתיים. בתום החודש השני מעוניין הלקוח לפרוע את ההלוואה, מה הסכום שעל הלקוח להחזיר?
- (5) לקוח פנה לבנק לקבלת הלוואה בסך 40,000 ₪. ההלוואה בריבית של 6% נקוב לשנה והיא נפרעת בתשלומים חודשיים שווים למשך ארבע שנים. מה יהיה ההחזר החודשי?
- (6) חברה קיבלה הלוואה של 60,000 ₪ ל-5 שנים בריבית של 12.68% אפקטיבי לשנה. ההלוואה נפרעת בתשלומים חודשיים שווים. מה יהיה ההחזר החודשי?
- (7) לרשות פירמה מסוימת הועמדה הלוואה של 200,000 ₪ שתוחזר ב-8 תשלומים שנתיים שווים של קרן וריבית. ההלוואה נושאת ריבית של 6% לשנה. מה גודל התשלום השנתי?
- (8) לרשות פירמה מסוימת הועמדה הלוואה של 200,000 ₪ שתוחזר ב-8 תשלומים שנתיים שווים של קרן וריבית. ההלוואה נושאת ריבית של 6% לשנה. מה גודל התשלום השנתי במידה וההחזר הראשון החל מהיום?

תשובות סופיות:

27,764.3	(4)	528.7	(3)	ראה סרטון	(2)	ראה סרטון	(1)
30,384.1	(8)	32,207.1	(7)	1334.6	(6)	939.4	(5)

יסודות המימון ושימושם בשומת מקרקעין

פרק 9 - שחזורי שאלות בנושא הלוואות ולוחות סילוקין

תוכן העניינים

1. שחזורי שאלות הלוואות ולוחות סילוקין..... 51

שחזורי שאלות הלוואות ולוחות סילוקין:

שאלות:

- 1) טלי ואלכס טופז קיבלו הלוואה בגובה 450,000 ₪, נושאת ריבית שנתית בשיעור 5% למשך תקופה של 15 שנים. ע"פ ההסכם עם הבנק, ההלוואה תפרע ב-15 תשלומים שנתיים שווים החל מבעוד שנה.
נדרש:
- מהו התשלום הקבוע שישלמו הזוג בסוף כל שנה?
 - מה תהיה יתרת ההלוואה לאחר התשלום השלישי?
 - מהו סכום הריבית הכולל על ההלוואה?
- 2) גברת דליה לקחה הלוואה בגובה 100,000 ₪, נושאת ריבית שנתית נקובה בשיעור של 10%, הנפרעת ב-60 תשלומים חצי שנתיים שווים.
נדרש:
- מהו התשלום הקבוע שישולם מדי חצי שנה במסגרת ההלוואה?
 - מה יתרת קרן ההלוואה לאחר 20 שנה?
- 3) להלן לוח סילוקין חלקי של הלוואה הנושאת ריבית שנתית קבועה למשך תקופה של 5 שנים:

מספר תשלום	יתרת פתיחה של הקרן	תשלום על חשבון ריבית	תשלום על חשבון קרן	סה"כ תשלום
1	10,000	?	?	?
2	9,402	1,222.26	?	?
3	9,268.26	?	2,251.13	?
4	?	?	?	3,489
5	?	?	?	?

הנח כי התשלום בגין ההלוואה מבוצע בסוף כל שנה.
נדרש:
שחזר את לוח הסילוקין המלא של ההלוואה.

- (4) בפני לקוח שנקלע לחובות אפשרות ללקיחת 2 הלוואות בשוק האפור בתנאים הבאים: הלוואה א'- הלוואה נושאת ריבית שנתית נקובה של 10%, המוחזרת ב-30 תשלומים שנתיים שווים החל מבעוד שנה. ידוע כי מרכיב הריבית בתשלום ה-13 בגין הלוואה זו עומד על 87,000 ₪.
- הלוואה ב'- הלוואה בגובה 500,000 ₪, נושאת ריבית שנתית נקובה בשיעור של 17%, הנצברת לקרן מדי יום (הנח שבחודש 30 ימים). ההלוואה תפרע בתשלום אחד, שישולם לאחר 22 חודשים מועד לקיחת ההלוואה.
- נדרש:

א. חשב את סכום ההלוואה שנלקח במסגרת הלוואה א', ואת התשלום השנתי הקבוע המשולם בגינה.

- (5) בפני לקוח שנקלע לחובות אפשרות ללקיחת 2 הלוואות בשוק האפור בתנאים הבאים: הלוואה א'- הלוואה נושאת ריבית שנתית נקובה של 10%, המוחזרת ב-30 תשלומים שנתיים שווים החל מבעוד שנה. ידוע כי מרכיב הריבית בתשלום ה-13 בגין הלוואה זו עומד על 87,000 ₪.
- הלוואה ב'- הלוואה בגובה 500,000 ₪, נושאת ריבית שנתית נקובה בשיעור של 17%, הנצברת לקרן מדי יום (הנח שבחודש 30 ימים). ההלוואה תפרע בתשלום אחד, שישולם לאחר 22 חודשים מועד לקיחת ההלוואה.
- נדרש:

ב. חשב את הסכום שישולם במועד הפירעון של הלוואה ב'.

- (6) להלן לוח סילוקין חלקי של הלוואה הנושאת ריבית שנתית קבועה למשך תקופה של 4 שנים:

מספר תשלום	יתרת פתיחה של הקרן	תשלום על חשבון ריבית	תשלום על חשבון קרן	סה"כ תשלום
1	10,000	?	?	2,900
2	?	?	?	0
3	?	?	?	4,000
4	?	?	?	6,000

הנח כי התשלום בגין ההלוואה מבוצע בסוף כל שנה.

נדרש:

הראה כי שיעור הריבית השנתית שנושאת ההלוואה הינו 9%.

7) להלן לוח סילוקין חלקי של הלוואה הנושאת ריבית שנתית קבועה למשך תקופה של 4 שנים :

מספר תשלום	יתרת פתיחה של הקרן	תשלום על חשבון ריבית	תשלום על חשבון קרן	סה"כ תשלום
1	10,000	?	?	2,900
2	?	?	?	0
3	?	?	?	4,000
4	?	?	?	6,000

הנח כי התשלום בגין ההלוואה מבוצע בסוף כל שנה.
נדרש :

הראה כי שיעור הריבית השנתית שנושאת ההלוואה הינו 9% ושחזר את לוח הסילוקין המלא של ההלוואה.

8) מוצעת לך הלוואה בגובה 100,000 ₪ למשך תקופה של 5 שנים. ההלוואה הינה צמודה למדד והיא נושאת ריבית שנתית בשיעור של 3%. ידוע כי האינפלציה הצפויה במשק עבור כל אחת מ-5 השנים הקרובות הינה 8%. בדיעבד, התברר כי האינפלציה בפועל שנצברה בכל שנה עמדה על 5% בשנה הראשונה, 7% בשנה השנייה, 8% בשנה השלישית, 6% בשנה הרביעית ו-10% בשנה החמישית.
נדרש :

- חשב את שיעור הריבית הנומינלית במשק ביום לקיחת ההלוואה.
- מהו שיעור האינפלציה המצטבר במשך ב-5 השנים שחלפו מיום לקיחת ההלוואה?

9) מוצעת לך הלוואה בגובה 100,000 ₪ למשך תקופה של 5 שנים. ההלוואה הינה צמודה למדד והיא נושאת ריבית שנתית בשיעור של 3%. ידוע כי האינפלציה הצפויה במשק עבור כל אחת מ-5 השנים הקרובות הינה 8%. בדיעבד, התברר כי האינפלציה בפועל שנצברה בכל שנה עמדה על 5% בשנה הראשונה, 7% בשנה השנייה, 8% בשנה השלישית, 6% בשנה הרביעית ו-10% בשנה החמישית.
נדרש :

- חשב את התשלומים שיידרשו בגין ההלוואה בתום כל אחת מ-3 השנים הראשונות תחת ההנחה שההלוואה אינה צמודה, והיא נפרעת ב-5 תשלומים שנתיים שווים בערכם הנומינלי.
- חשב את התשלומים שיידרשו בגין ההלוואה בתום כל אחת מ-3 השנים הראשונות תחת ההנחה שההלוואה צמודה למדד, והיא נפרעת ב-5 תשלומים שנתיים שווים בערכם הריאלי.

תשובות סופיות:

ג. 200,310.4	ב. 384,257.6	א. 43,354	(1)
	ב. 65,835.48	א. 5,282.81	(2)
		ראה סרטון.	(3)
		א. 1,000,000 , 106,079.	(4)
		ב. 682,800.	(5)
		ראה סרטון.	(6)
		ראה סרטון.	(7)
	ב. 41.48%	א. 11.24%	(8)
	ד. 26,495 , 24,532 , 22,927	ג. 27,221	(9)

יסודות המימון ושימושם בשומת מקרקעין

פרק 10 - אגרת חוב (חישוב באמצעות נוסחאות)

תוכן העניינים

1. כללי 55

אגרת חוב (חישוב באמצעות נוסחאות):

שאלות:

- (1) אג"ח בערך נקוב של 100 הנושאת ריבית נקובה של 5% לשנה הונפקה ל-6 שנים. מה שווי האיגרת היום בהנחה ששיעור התשואה על האיגרת 2%?
- (2) אג"ח בערך נקוב של 100 הנושאת ריבית נקובה של 5% לשנה הונפקה ל-6 שנים. מחזיק האיגרת מעוניין למכור אותה בתום השנה השנייה. מה המחיר שעל מחזיק האיגרת לבקש בהנחה ששיעור התשואה עומד על 10%?
- (3) אג"ח צמיתה מחלקת קופון של 50 ₪ כל שנתיים. מה שווי האיגרת היום בהנחה שהאג"ח הונפקה לפני חצי שנה ושיעור התשואה עליה 5% לשנה?
- (4) מלווה קצר מועד (מק"מ) נסחר היום ב-96 אגורות. מועד הפדיון הוא בעוד 160 ימים ומחזיק האיגרת יקבל בפדיון 100 אגורות. מהו שיעור התשואה השנתי לפדיון?
- (5) אג"ח צמותה בת 100 אגורות ע"נ נמכרה בהנפקה במחיר של 85 אגורות. האג"ח נושאת ריבית שנתית של 12% וידוע כי הקופון מחולק כל שנה. אם שער הריבית האפקטיבי השנתי 10.4%, מה שווי האיגרת היום?
- (6) ב-1.1.2010 הנפיקה חברת "מאגדי השקעות בע"מ" אג"ח לשנתיים, המשלמת בסוף כל שנה ריבית נקובה של 5%. אם ביום ההנפקה היה שיעור התשואה לפדיון של האיגרת 10% לשנה, אזי בכמה הונפקה האיגרת מערכה הנקוב?
- (7) אג"ח בערך נקוב של 100 אגורות נושאת ריבית נקובה שנתית של 6% למשך 6 שנים. ידוע כי הקופון מחולק כל חצי שנה וכי התשואה השנתית של האיגרת עומדת על 10.25%. מה שווי האיגרת בתום 3 שנים ובטרם קיבל את הריבית של סוף שנה?
- (8) אג"ח בערך נקוב של 100 הנושאת ריבית נקובה של 8% לשנה הונפקה ל-4 שנים. מה שווי האיגרת היום בהנחה ששיעור התשואה עומד על 10% לשנה ו-50% מהקרן נפדה בתום השנתיים?

9) לפניך הנתונים הבאים על איגרת חוב שהונפקה לפני רגע:
 האיגרת בעלת 100 ₪ ע"י, האיגרת משלמת פעם אחת בשנה, בסוף כל שנה
 האיגרת הונפקה לתקופה של 6 שנים, האיגרת הונפקה במחיר של 110 ₪,
 התשואה השנתית הנדרשת לפדיון הינה 5%.

- א. מה ניתן לומר מבלי לחשב על הריבית הנקובה של האג"ח?
 ב. חשב את הריבית השנתית הנקובה על איגרת החוב.

10) אתמול הנפיקה חברת "מאגדי השקעות" שתי סדרות של אגרות חוב בעלות 100 ₪ ע"י:

- סדרה א': נושאת ריבית שנתית של 12% משולמת פעמיים בשנה. עומדת לפירעון בעוד 4 שנים.
- סדרה ב': אג"ח לשנה אחת נושאת ריבית שנתית של 8%. הקרן והריבית ישולמו יחדיו בסוף התקופה. ידוע כי במועד ההנפקה של סדרה זו נמכרו אגרות החוב בניכיון של 10% מערכן הנקוב. נדרש: חשב את שיעור הפרמיה או הניכיון של סדרה א'.

11) להלן נתונים על 3 איגרות חוב קונצרניות לתאריך 01.01.2011:

מספר תשלומי הקופון בשנה	מחיר האיגרת כיום בבורסה	אורך חיי האיגרת בשנים	ריבית נקובה	ערך נקוב	תאריך הנפקה	חברה
1	96	2	4%	100	01.01.2010	בזק
2	?	2	6%	120	30.06.2010	כור
2	?	2	9%	200	01.01.2011	כיל

- א. חשב את מחירי אגרות החוב של חברת "כור" ושל חברת "כיל" כיום בבורסה.
 ב. הנח כעת כי הערך הנקוב של חברת "כיל" אינו נפדה כולו ביום האחרון של חיי האיגרת אלא נפדה ב-2 תשלומים, כאשר התשלום הראשון אשר יהיה בתאריך 01.01.2012 יהווה 30% מהערך הנקוב והתשלום השני אשר יהיה בסוף חיי האיגרת יהווה 70% מהערך הנקוב. מה יהיה מחיר האיגרת של חברת "כיל" כיום בבורסה?

- (12) חברת "אופיר סוכנות לביטוח" הצליחה לגייס היום בבורסה 100,000 ₪ על ידי הנפקת 2 סדרות של אג"ח:**
- סדרה א': אג"ח צמיתה (קונסול) בעלת 50,000 ₪ ע"נ אשר משלמת ריבית של 5% לשנה לצמיתות.
 - סדרה ב': אג"ח מסוג Zero Coupon אשר נפרעת בעוד שנה מהיום. התשואה הנדרשת לפדיון הינה 8% לשנה.
- נדרש: חשב את הע"נ של סדרה ב'.

תשובות סופיות:

9.75%	(4)	500	(3)	84.1	(2)	116.7	(1)
94.98	(8)	92.83	(7)	91.3%	(6)	120	(5)
		80.75	(10)	ב. 7%		א. ראה סרטון	(9)
		74,250	(12)	ב. 224.3		א. 203.48 , 109.45	(11)

יסודות המימון ושימושם בשומת מקרקעין

פרק 11 - איגרות חוב (אגח) בשיטת מחשבון פיננסי

תוכן העניינים

1. כללי 58

איגרות חוב (אג"ח) בשיטת מחשבון פיננסי:

שאלות:

- (1) אג"ח בערך נקוב של 100 הנושאת ריבית נקובה של 7% לשנה הונפקה ל-4 שנים. מה שווי האיגרת היום בהנחה ששיעור התשואה על האיגרת 3%?
- (2) אג"ח בערך נקוב של 100 הנושאת ריבית נקובה של 5% לשנה הונפקה ל-6 שנים. מה שווי האיגרת היום בהנחה ששיעור התשואה על האיגרת 2%?
- (3) אג"ח בערך נקוב של 100 הנושאת ריבית נקובה של 5% לשנה הונפקה ל-6 שנים. מחזיק האיגרת מעוניין למכור אותה בתום השנה השנייה. מה המחיר שעל מחזיק האיגרת לבקש בהנחה ששיעור התשואה 10% לשנה?
- (4) אג"ח צמיתה מחלקת קופון של 50 ₪ כל שנה. מה שווי האיגרת היום בהנחה ושיעור התשואה עליה 5% לשנה?
- (5) מלווה קצר מועד (מק"מ) נסחר היום ב-96 אגורות. מועד הפדיון הוא בעוד 160 ימים ומחזיק האיגרת יקבל בפדיון 100 אגורות. מהו שיעור התשואה השנתי לפדיון?
- (6) אג"ח צמותה בת 100 אגורות ע"נ נמכרה בהנפקה במחיר של 85 אגורות. האג"ח נושאת ריבית שנתית של 12% וידוע כי הקופון מחולק כל שנה. אם שער הריבית האפקטיבי השנתי 10.4%, מה שווי האיגרת היום?
- (7) ב-1.1.2010 הנפיקה חברת "מאגדי השקעות בע"מ" אג"ח לשנתיים, המשלמת בסוף כל שנה ריבית נקובה של 5%. אם ביום ההנפקה היה שיעור התשואה לפדיון של האיגרת 10% לשנה, בכמה הונפקה האיגרת מערכה הנקוב?
- (8) אג"ח בערך נקוב של 100 הנושאת ריבית נקובה של 8% לשנה הונפקה ל-3 שנים. מה שווי האיגרת היום בהנחה ששיעור התשואה עומד על 10% לשנה?

9) מחיר אג"ח 1000 ע.נ לרכישה הוא 880. לפי זה, התשואה על אג"ח זו אם שיעור הריבית הוא 5% ולתקופה של 8 שנים היא בקירוב:

א. 7%

ב. 6%

ג. 5%

ד. 4%

ה. אף תשובה אינה נכונה.

10) אם שיעור הריבית של אג"ח שהונפקה ב-1000 ע.נ הוא 5%, תקופת האג"ח היא 10 שנים ושווי האג"ח בשוק הוא 900 ₪, הרי מחיר הון האג"ח הוא:

א. 4.5%

ב. 3.75%

ג. 6.3%

ד. 1.2%

ה. אף תשובה אינה נכונה.

11) אג"ח בע.נ של 10,000 ₪ משלמת ריבית שנתית של 2%. קרן האג"ח תפרע בעוד 6 שנים מהיום. הריבית במשק 5% לשנה. מה מחיר האג"ח היום?

א. 8,477

ב. 10,300

ג. 11,800

ד. 8,020

ה. אף תשובה אינה נכונה.

12) אג"ח מניבה ריבית של 240 ₪ בתום כל שנה לנצח החל מבעוד חמש שנים מהיום. מה יהיה מחיר השוק של האג"ח היום, אם ריבית השוק על אג"ח דומות היא 8%?

א. 2,205.09

ב. 1,713.98

ג. 2,815.22

ד. 1,534.99

ה. אף תשובה אינה נכונה.

13 קניית היום אג"ח בערך נקוב של 1,000 ₪ שהונפקה לפני שלוש שנים למשך שמונה שנים. האג"ח מעניקה ריבית של 8% לשנה והחזר הקרן בסוף התקופה, דהיינו, חמש שנים מהיום. מהי התשואה לפדיון של האג"ח אם רכשת אותה היום תמורת 878 ₪.

א. 10.3%

ב. 8%

ג. 12.8%

ד. 11.3%

ה. אף תשובה אינה נכונה.

תשובות סופיות:

1000 (4)	ראה סרטון (3)	116.8 (2)	114.86 (1)
95 (8)	91.32% (7)	115.38 (6)	9.55 (5)
א' (12)	א' (11)	ג' (10)	א' (9)
			ד' (13)

יסודות המימון ושימושם בשומת מקרקעין

פרק 12 - שחזורי שאלות הערכת איגרות חוב

תוכן העניינים

1. שחזורי שאלות הערכת איגרות חוב 61

שחזורי שאלות הערכת איגרות חוב:

שאלות:

- (1) חברה הנפיקה איגרת חוב ל-6 שנים בערך נקוב של 500 ₪, נושאת ריבית שנתית בשיעור של 7% המשולמת בסוף שנה. הערך הנקוב של האיגרת ייפרע בתשלום אחד בעוד 5 שנים. שיעור התשואה של אג"ח דומות 10% לשנה.
נדרש:
- א. מה יהיה מחיר איגרת החוב ביום ההנפקה והאם היא הונפקה בפרמיה או בניכיון?
ב. מה יהיה שווי האג"ח בתום שנה שנייה?
- (2) ביום 1.1.2015 הנפיקה חברת "מאגדי יזמות" אג"ח ל-8 שנים בעלת ע.ג. של 100 ₪. האג"ח נושאת ריבית שנתית של 10% המשולמת בסוף כל שנה.
ידוע כי ביום ההנפקה שיעור הריבית על אג"ח דומות עמד על 10% לשנה.
נדרש:
- א. ענה ללא חישוב, האם האג"ח הונפקה בפרמיה או בניכיון?
ב. מהו הסכום שגייסה חברת "מאגדי יזמות" ביום 1.1.2015?
ג. מה יהיה מחיר איגרת החוב שנתיים לאחר מועד ההנפקה, רגע לאחר תשלום הקופון?
ד. מה יהיה מחיר איגרת החוב שנתיים לאחר מועד ההנפקה, רגע לפני תשלום הקופון?
ה. לאחר שנתיים ויום ירד שיעור הריבית המקובל בשוק על איגרות חוב דומות ל-4% לשנה.
מה יהיה מחיר איגרת החוב שנתיים וחצי לאחר מועד ההנפקה?
- (3) חברת "אופיר ובניו" הנפיקה איגרת חוב בערך נקוב של 2,000 ₪, נושאת ריבית שנתית של 12% המשולמת כל חצי שנה. הערך הנקוב של האיגרת ייפרע בתשלום אחד בעוד 8 שנים. ידוע כי שיעור התשואה השנתי המקובל בשוק על איגרות חוב בעלות סיכון זהה הינו 10%.
נדרש:
- א. מהו שיעור הריבית לפיו יש להוון את תשלומי הריבית (קופונים) המתקבלים מהאג"ח?
ב. מהו מחיר איגרת החוב ביום ההנפקה?
- (4) חשב את שיעור הריבית השנתית שנושאת איגרת חוב באם ידוע כי האג"ח הונפקה אתמול במחיר של 87.54 ₪ לכל 100 ₪ ע.ג. אורך חיי האיגרת הינו 10 שנים והקופון בגינה משולם כל חצי שנה. שיעור התשואה השנתית הנדרש על איגרות חוב ברמת סיכון דומה הינו 10.25%.

- 5) ביום 1.1.2015 הונפקה אג"ח "מאגדים" בעלת 100 ₪ ע.נ הצמודה למדד המחירים לצרכן. איגרת החוב נושאת ריבית שנתית נקובה בשיעור של 4% ועומדת לפדיון ביום 31.12.2020.
- ביום 31.12.2015 (יום לפני תשלום הקופון) נסחרה איגרת החוב במחיר המשקף תשואה ריאלית לפדיון של 4%.
- להלן נתונים נוספים:

תאריך	מדד	שיעור תשואה לפדיון של אג"ח לא צמודות
1.1.2015	100	5.86%
31.12.2015	105	6.08%
31.12.2016	112	6.05%

נדרש:

- א. מהו מחירה של אג"ח "מאגדים" ביום 31.12.2015 (יום לפני תשלום הקופון)?
- ב. מהו שיעור האינפלציה השנתי הצפוי ע"י המשקיעים ביום 31.12.2015?
- ג. מהו מחיר איגרת החוב ביום 31.12.2016 (יום לפני תשלום הקופון) במידה והתשואה הריאלית הנדרשת ע"י משקיעים באותו יום הינה 5% לשנה?

- 6) להלן נתונים על איגרות חוב שנסחרו במשק, נכון לתאריך 1.1.2011:

החברה המנפיקה	מועד ההנפקה	ערך נקוב	ריבית נקובה	אורך חיים	מחיר האיגרת	הערות
עצמאותה	1.1.2011	100 ₪	10%	שנתיים	107.33	הריבית משולמת כל שנה
שחרורה	30.6.2009	100 ₪	8%	שנתיים	?	הריבית משולמת כל רבעון

הנח כי איגרות החוב הן בעלות סיכון זהה.

נדרש:

- א. הראה כי שיעור התשואה לפדיון הגלום באיגרת החוב שהנפיקה חברת "עצמאותה" הינו 6%.
- ב. חשב את מחיר איגרת החוב שהנפיקה חברת "שחרורה" נכון ליום 1.1.2011.

תשובות סופיות:

			ב. 452.4	א. 4,34.67, ניכיון.	(1)
ה. 143.17	ד. 110	ג. 100	ב. 100	א. בפארי.	(2)
			ב. 2,244	א. 4.88%	(3)
				.8%	(4)
		ג. 112.5%	ב. 2%	א. 109.2	(5)
			ב. 101.04	א. הוכחה.	(6)

יסודות המימון ושימושם בשומת מקרקעין

פרק 13 - הגדרות וסוגי פרויקטים

תוכן העניינים

1. כללי 64

הגדרות וסוגי פרויקטים:

שאלות:

- (1) פרויקט לא קונבנציונאלי הוא:
- פרויקט בסדר גודל של מעל ל-1 מיליון ₪.
 - פרויקט השקעה הדורש מו"פ.
 - פרויקט בעל השלכות פיננסיות מסובכות.
 - פרויקט שזרם המזומן שלו משנה את סימנו יותר מפעם אחת.
 - אף תשובה אינה נכונה.
- (2) פרויקט קונבנציונאלי הוא:
- פרויקט בסדר גודל של עד 1 מיליון ₪.
 - פרויקט שזרם המזומן שלו משנה את סימנו פעם אחת.
 - פרויקט השקעה יצרני.
 - פרויקט שאין לו השלכות פיננסיות מסובכות.
 - פרויקט שנומינלית סכום התקבולים שלו גדול מסכום תשלומיו.
- (3) תוכניות המוציאות זו את זו הן:
- תוכניות שכתוצאה מביצוע האחת, קטנה רווחיותה של התוכנית השנייה.
 - תוכניות שביצוע האחת אינה מבטיחה הכנסות בלעדי התוכנית האחרת.
 - תוכניות הבאות בסדר כרונולוגי של התפתחות המפעל, זו אחר זו.
 - תוכניות, שרק אם סיימנו את האחת נוכל להתחיל את האחרת.
 - תוכניות שאין אפשרות או שאין צורך לבצע את התוכנית האחת, באם תתקבל התוכנית האחרת.
- (4) לפניך פרויקטים המוציאים זה את זה, מחיר ההון של החברה 10%. איזו השקעה עדיפה?

5	4	3	2	1	0	
20		20	50	50	-100	A
30	30	30	30	30	-100	B

- 5) לפניך פרויקטים המוציאים זה את זה, חשב לכל השקעה את ה-NPV. איזו השקעה תבחר?

8	7	6	5	4	3	2	1	0	
40	40	40	40	40	40	40		-100	A
50	50	50	50				-80		B
100	100			80			30	-150	C

- 6) לרשות חברה מוצר חדש. ייצור המוצר מחייב את ההשקעות הבאות:
 שנה ראשונה - 40,000 ₪.
 שנה שנייה - 15,000 ₪.
 שנה שלישית - 20,000 ₪.
 ההשקעות יניבו הכנסה שנתית של 60,000 ₪ החל מסוף שנה שנייה, במשך שלוש שנים.
 בהנחה שמחיר ההון של הפירמה 10% לשנה, חשב NPV.

- 7) בפניי חברת "מגדים" בע"מ שני פרויקטים המוציאים זה את זה:

5	4	3	2	1	0	
2650	2650	2650	2650	2650	-7500	A
1800	1800	1800	1800	1800	-4800	B

- מחיר ההון של המשקיע 5%.
 איזה פרויקט ייבחר ע"פ קריטריון IRR?

- 8) פרויקט דורש השקעה של 4,875 ₪ בזמן 0 ולאחר שנה הוא נותן 20,000 ₪ ובשנה שלאחריה נדרשת השקעה נוספת של 2,000 ₪. באיזה תחום של מחיר הון יהיה הפרויקט כדאי?

- 9) לפניך זרם המזומנים של חברת "מאג" בע"מ:
 זרם מזומנים חיובי של 1,400 ₪ היום ובנוסף לכך זרם מזומנים שלילי של 200 ₪ לשנה במשך 8 השנים הקרובות.
 באיזה תחום של מחיר הון יהיה הפרויקט כדאי?

- 10** בבדיקה של פרויקט נמצא שיש לו 2 שערי שת"פ 15% ו-45%. בהנחה שמחיר ההון של הפירמה 10% לשנה, סמן את הקביעה הנכונה:
- א. הפרויקט כדאי להשקעה לפי קריטריון השת"פ, באם ידוע שעבור $K=0$ העניין חיובי.
- ב. הפרויקט אינו כדאי להשקעה לפי קריטריון העניין, באם ידוע שעבור $K=0$ העניין שלילי.
- ג. לא ניתן לקבל החלטה ע"פ השת"פ.
- ד. תשובות א + ב נכונות.
- ה. תשובות ב + ג נכונות.

- 11** חברת "דור כימיקלים" בע"מ שוקלת שני פרויקטים המוציאים זה את זה:

5	4	3	2	1	0	
2650	2650	2650	2650	2650	-7500	A
1800	1800	1800	1800	1800	-4800	B

מחיר ההון של המשקיע 2%, איזה פרויקט ייבחר ע"פ קריטריון PI?

- 12** לפניך הפרויקטים הבאים המוציאים זה את זה:

4	3	2	1	0	
50	50	50	50	-100	A
60	60	60	-100		B
-100		-50	50	-200	C

- מחיר ההון של החברה 20%.
- א. חשב NPV לכל חלופה.
- ב. חשב PI לכל חלופה ודרג את החלופות.

- 13** השוואת אופק, איזה פרויקט תבחר?

5	4	3	2	1	0	
8	10	30	40	40	-100	A
	37	37	37		-100	B

14) לפניך הפרויקטים הבאים המוציאים זה את זה :

3	2	1	0	
50	50	50	-100	A
	70	70	-100	B

מחיר ההון של הפירמה 8% .
איזו חלופה תבחר הפירמה?

15) לפניכם ההשקעות הבאות המוציאות זו את זו :

3	2	1	0	
28,000			-20,000	A
		24,000	-20,000	B

סמן את הקביעה הנכונה :

- א. ע"פ NPV, נעדיף את A על פני B.
- ב. במחיר הון של 13% נהיה אדישים בין ההשקעות.
- ג. במחיר הון של 20% נהיה אדישים בין ההשקעות.
- ד. במחיר הון הגבוה מ-12% נעדיף את A.
- ה. ע"פ IRR, נעדיף את B על פני A.

16) עליך לבחור בין 2 פרויקטים המוציאים זה את זה :

5	4	3	2	1	0	
17700	17700	17700	17700	17700	-48700	A
12500	12500	12500	12500	12500	-31600	B

מחיר ההון 9% לשנה.

- א. איזה פרויקט יבחר ע"פ NPV?
- ב. איזה פרויקט יבחר ע"פ IRR?
- ג. חשב IRR הפרשי.

17 כלכלן בחן כדאיות של פרויקט וקיבל כי לפרויקט שני שת"פים 5% ו-30%. בנוסף קיבל כי בשער ריבית של 8% ענ"נ הפרויקט שלילי. סמנו את הקביעה הנכונה:

- א. הפרויקט כדאי להשקעה, אם מחיר ההון של החברה קטן מ-30%.
- ב. הפרויקט אינו כדאי להשקעה, אם מחיר ההון של החברה גדול מ-5%.
- ג. לא ניתן לקבל החלטה על סמך הנתונים.
- ד. הפרויקט כדאי להשקעה, אם מחיר ההון של החברה גדול מ-5%.
- ה. אף תשובה אינה נכונה.

18 שמעון בדק השקעה ומצא כי על פי כלל הענ"נ ההשקעה כדאית. ראובן בדק את כדאיות ההשקעה על פי השת"פ ומדד הרווחיות. להלן שתי טענות:

- i. יתכן כי ראובן ימצא שהפרויקט לא כדאי על פי מדד הרווחיות.
- ii. אם הפרויקט קונבנציונאלי, ראובן ימצא ע"פ השת"פ שהפרויקט כדאי. סמנו את התשובה הנכונה:
 - א. רק טענה ii נכונה.
 - ב. רק טענה i נכונה.
 - ג. שתי הטענות נכונות.
 - ד. שתי הטענות לא נכונות.
 - ה. אף תשובה אינה נכונה.

19 נתונים התזרימים הבאים (באלפי ₪):

4	3	2	1	0	
375	375	375	375	-1500	A
350	350	350	350	-1200	B

שער ההיוון הוא 15%. הניחו שיש תלות בין ההשקעות כך שאם שתיהן תתבצענה, התזרים מהשקעה A יגדל ב-225 אלף ₪ בכל שנה (לא יחול שינוי בתזרים בזמן 0). לעומת זאת, התזרים הכספי מהשקעה B יישאר ללא שינוי, מכאן שכדאי:

- א. להשקיע רק ב-A.
- ב. להשקיע רק ב-B.
- ג. להשקיע ב-A וב-B.
- ד. לדחות את שניהם.
- ה. אף תשובה אינה נכונה.

(20) אורך חיים של פרויקט הוא שנתיים, הכנסות בסוף כל שנה של 4,800 ₪ ורמת ההשקעה אינה ידועה. שיעור התשואה הפנימי של הפרויקט עומד על 15% ומחיר ההון 9%. מהו עניין הפרויקט?

תשובות סופיות:

(1) ד'	(2) ב'	(3) ה	(4) A
(5) A	(6) 71,686.1	(7) B	(8) $k \leq 300\%$
(9) 3%	(10) ה	(11) B	
(12) א. $NPV_C = -231.3$, $NPV_B = 22$, $NPV_A = 29.45$		ב. $PI_A = 1.2945$, $PI_B = 1.2641$	
(13) A	(14) B	(15) ה	
(16) א. A	ב. B	ג. 17%	(18) א'
(19) ג'	(20) 639	(17) ה	

יסודות המימון ושימושם בשומת מקרקעין

פרק 14 - פרויקטים בשיטת מחשבון פיננסי

תוכן העניינים

1. מושגים והגדרות (ללא ספר)
2. חישוב ענן 70
3. חישוב שתפ 74
4. חישוב מדד הרווחיות 77

חישוב ענ"נ:

שאלות:

(1) להלן 2 פרויקטים המוציאים זה את זה:

פרויקט/שנה	0	1	2	3	4	5
A	-100	50	50	20		20
B	-100	30	30	30	30	30

מחיר ההון של החברה 10%, איזו השקעה עדיפה?

(2) לפניך פרויקטים המוציאים זה את זה:

פרויקט/שנה	0	1	2	3	4
A	-100		40	40	40
B		-80			100
C	-90	30			80

מחיר ההון של החברה 1%, חשב לכל השקעה את ה-NPV, איזו השקעה תבחר?

(3) לרשות חברה מוצר חדש. ייצור המוצר מחייב את ההשקעות הבאות:

בתחילת שנה ראשונה - 40,000 ₪.

בתחילת שנה שנייה - 15,000 ₪.

בתחילת שנה שלישית - 20,000 ₪.

ההשקעות יניבו הכנסה שנתית של 60,000 ₪ החל מסוף שנה שנייה, במשך שלוש שנים.

בהנחה שמחיר ההון של הפירמה 10% לשנה, חשב NPV.

(4) חשב מהו ה-NPV לתזרים הנתון, בהנחה שהריבית 2% לשנה:

	0	1	2	3	4	5
	-500	200	200	200	200	200

(5) חשב מהו ה-NPV לתזרים הנתון, בהנחה שהריבית החודשית 0.48% :

שנים	0	1	2	3	4	5
	-400	220	220	220	220	220

(6) חשב מהו ה-NPV לתזרים הנתון, בהנחה שהריבית השנתית האפקטיבית 60.1% :

חודשית	0	1	2	3	4	5
	-650	350	350	350	350	350

(7) חשב מהו ה-NPV לתזרים הנתון, בהנחה שהריבית השנתית האפקטיבית 3% :

שנים	0	1	2	3	4	5
	-1000	-1000	400		600	600

(8) חשב מהו ה-NPV לתזרים הנתון, בהנחה שהריבית החודשית 0.643% :

שנים	0	1	2	3	4	5	6
	-1000		-1000		700	700	700

(9) חשב מהו ה-NPV לתזרים הנתון, בהנחה שהריבית השנתית האפקטיבית 3% :

שנים	0	1	2	3	4
	-2000	1000	1000	1000	1000

(10) חשב מהו ה-NPV לתזרים הנתון, בהנחה שהריבית השנתית האפקטיבית 4% :

שנים	0	1	2	3	4
	-2000				2000

(11) חשב מהו ה-NPV לתזרים הנתון, בהנחה שהריבית השנתית האפקטיבית 5% :

שנים	0	1	2	3	4
	-2000		3000	1000	2000

12) איזו השקעה עדיפה ע"פ קריטריון הענ"ן, בהנחה שהריבית השנתית האפקטיבית 5%:

פרויקט/שנים	0	1	2	3	4
A	-2000		3000	1000	2000
B	-2000	3500			2500

13) לפניך 2 פרויקטים המוציאים זה את זה. איזו השקעה עדיפה ע"פ קריטריון הענ"ן, בהנחה שהריבית השנתית האפקטיבית 2%:

פרויקט/שנים	0	1	2	3	4
A	-500		3000	3000	700
B	-400		2000		4500

14) לפניכם 2 פרויקטים המוציאים זה את זה, מחיר ההון 15% לשנה. איזה פרויקט ייבחר ע"פ קריטריון הענ"ן?

פרויקט/שנים	0	1	2	3	4
A	-45000	26100	26100	26100	26100
B	-360000	199120	199120	199120	199120

15) לפניכם 2 פרויקטים בלתי תלויים, מחיר ההון 15% לשנה. איזה פרויקט ייבחר ע"פ קריטריון הענ"ן?

פרויקט/שנים	0	1	2	3	4
A	-45000	26100	26100	26100	26100
B	-360000	199120	199120	199120	199120

16) חברת "מאגדים" בוחנת אפשרות להשקעה באחד מבין שני הפרויקטים הבאים A ו-B. ידוע כי עלות ההון של החברה הינה 8% שנתי, חשב את השת"פ של כל פרויקט. מי עדיף?

שנים	0	1	2	3	4	5
A	-12800	4000	4000	4000	4000	4000
B	-7000	3000	3000	3000	3000	3000

תשובות סופיות:

442.69 (4	65,481 (3	B (2	A (1
-425.29 (8	543.17 (7	908.13 (6	528.99 (5
B (12	3230.33 (11	-290.3 (10	1717.09 (9
B (16	B-1 A (15	A (14	A (13

חישוב שת"פ:

שאלות:

17) חברת "מגדים" בע"מ שוקלת שני פרויקטים המוציאים זה את זה:

שנים	0	1	2	3	4	5
A	-7500	2650	2650	2650	2650	2650
B	-4800	1800	1800	1800	1800	1800

הראה כי השת"פ של A ו-B 23%-ו-25% בהתאמה.

18) פרויקט דורש השקעה של 4,875 ₪ בזמן 0 ולאחר שנה הוא נותן 20,000 ₪ ובשנה שלאחריה נדרשת השקעה נוספת של 2,000 ₪. באיזה תחום של מחיר הון יהיה הפרויקט כדאי?

19) חשב IRR לתזרים הבא:

שנים	0	1	2	3	4
A	-2000	604	604	604	604

20) לפניך 2 פרויקטים המוציאים זה את זה. איזו השקעה עדיפה ע"פ קריטריון השת"פ, בהנחה שהריבית השנתית האפקטיבית 5%:

שנים	0	1	2	3	4	5	6
A	-50	12	12	12	12	12	12
B	-70	15	15	15	15	15	15

21) נדרש לחשב את השת"פ של הפרויקט הבא:

שנים	0	1	2	3	4
A	-20000	7000	7000	7000	7000

22) לפניכם 2 פרויקטים בלתי תלויים כלכלית, מחיר ההון 10% לשנה. חשב שת"פ לכל פרויקט.

שנים	0	1	2	3	4	5
A	50000	-13190	-13190	-13190	-13190	-13190
B	50000	-20818	-20818	-20818		

23) לפניכם 2 פרויקטים המוציאים זה את זה, מחיר ההון 15% לשנה. איזה פרויקט ייבחר ע"פ קריטריון השת"פ?

שנים	0	1	2	3	4
A	-45000	26100	26100	26100	26100
B	-360000	199120	199120	199120	199120

24) להלן זרם מזומנים נתון: זרם מזומנים חיובי של 4000 ₪ היום ובנוסף לכך, זרם מזומנים שלילי של 1056 ₪ לשנה בחמש השנים הקרובות. באיזה תחום של מחיר הון יהיה הפרויקט כדאי?

25) חברת "מאגדים" בוחנת אפשרות להשקעה באחד מבין שני הפרויקטים הבאים A ו-B. ידוע כי עלות ההון של החברה הינה 8% שנתי, חשב את השת"פ של כל פרויקט.

שנים	0	1	2	3	4	5
A	-12800	4000	4000	4000	4000	4000
B	-7000	3000	3000	3000	3000	3000

26) חברה בוחנת השקעה באחד מבין 2 פרויקטים המוציאים זה את זה וחד פעמיים:

שנים	0	1	2	3	4
A	-700	-	-	900	-
C	-1000	1080	-	-	-

חשב את שיעור התשואה הפנימי של הפרויקטים.

(27) חשב את IRR ההפרשי של הפרויקטים הבאים:

שנים	0	1	2	3	4
A	-700	-	-	900	-
C	-1000	1080	-	-	-

(28) באיזה שער ריבית תעדיף לקבל כל פרויקט?

שנים	0	1	2	3
A	-2000	-	-	2800
C	-2000	2400	-	-

תשובות סופיות:

A (20)	8% (19)	$k \leq 300\%$ (18)	הוכחה (17)
10% (24)	A (23)	10% : A (22)	14.96% (21)
		12% : B	
8% (28)	9.4% (27)	8.7% : A (26)	17% : A (25)
		8% : B	32.2% : B

חישוב מדד הרווחיות:

שאלות:

(29) חברת "דור כימיקלים" בע"מ שוקלת שני פרויקטים המוציאים זה את זה:

שנים	0	1	2	3	4	5
A	-7500	2650	2650	2650	2650	2650
B	-4800	1800	1800	1800	1800	1800

מחיר ההון של המשקיע 2%, איזה פרויקט ייבחר ע"פ קריטריון PI?

(30) לפניך הפרויקטים הבאים המוציאים זה את זה:

שנים	0	1	2	3	4
A	-100	50	50	50	50
B		-100	60	60	60
C	-200	50	-50		-100

מחיר ההון של החברה 20%.

א. חשב NPV לכל חלופה.

ב. חשב PI לכל חלופה ודרג את החלופות.

(31) חשב מהו ה-PI של התזרים הבא, בהנחה שהריבית 2% לשנה:

שנים	0	1	2	3	4	5
	-500	200	200	200	200	200

(32) חשב מהו מדד הרווחיות של התזרים הבא, בהנחה שהריבית החודשית 0.48%:

שנים	0	1	2	3	4	5
	-400	220	220	220	220	220

33) חשב מהו ה-PI של התזרים הבא, בהנחה שהריבית השנתית האפקטיבית 60.1%:

חודשית	0	1	2	3	4	5
	-650	350	350	350	350	350

34) חשב מהו מדד הרווחיות של התזרים הבא, בהנחה שהריבית השנתית האפקטיבית 3%:

שנים	0	1	2	3	4
	-2000	1000	1000	1000	1000

35) חשב מהו ה-PI של התזרים הבא, בהנחה שהריבית השנתית האפקטיבית 4%:

שנים	0	1	2	3	4
	-2000				2000

36) חשב מהו ה-PI של התזרים הבא, בהנחה שהריבית השנתית האפקטיבית 5%:

שנים	0	1	2	3	4
	-2000		3000	1000	2000

37) איזו השקעה עדיפה ע"פ PI בהנחה שהפרויקטים מוציאים זה את זה והריבית השנתית האפקטיבית 5%:

שנים	0	1	2	3	4
A	-2000		3000	1000	2000
B	-2000	3500			2500

38) לפניך 2 פרויקטים המוציאים זה את זה. איזו השקעה עדיפה ע"פ קריטריון PI בהנחה שהריבית השנתית האפקטיבית 2%:

שנים	0	1	2	3	4
A	-500		3000	3000	700
B	-400		2000		4500

(39) לפניכם 2 פרויקטים בלתי תלויים, מחיר ההון 15% לשנה. איזה פרויקט ייבחר ע"פ קריטריון PI?

שנים	0	1	2	3	4
A	-450	261	261	261	261
B	-3600	1991	1991	1991	1991

(40) לפירמה תקציב השקעה של 800 ₪ אותו היא שוקלת להשקיע בפרויקטים הבאים:

פרויקט	סכום השקעה	עניין
1	600	160
2	400	152
3	300	96
4	300	105
5	200	50
6	100	40

באיזה עניין?

תשובות סופיות:

א. A : 29.4, B : 21.99, C : -248	ב. A : 1.29, B : 1.26	ג. A : 2.3, B : 2.39	ד. A : 0.85, B : 442.69
(30)	(31)	(32)	(33)
(34)	(35)	(36)	(37)
(38)	(39)	(40)	

יסודות המימון ושימוש בשומת מקרקעין

פרק 15 - שחזורי שאלות קריטריונים לקבלת החלטות השקעה

תוכן העניינים

1. שחזורי שאלות קריטריונים לקבלת החלטות השקעה 80

שחזורי שאלות קריטריונים לקבלת החלטות השקעה:

שאלות:

(1) להלן תזרימי המזומנים הצפויים משני פרויקטים:

תזרים בשנים 1-5	השקעה בהווה	
18,500	53,000	פרויקט א'
11,000	29,000	פרויקט ב'

הנח כי תזרימי המזומנים של כל פרויקט מתקבלים בסוף כל שנה, וכי מחיר ההון הרלוונטי לכל אחד מהפרויקטים הינו 8%.
נדרש:

- א. חשב את הערך הנוכחי הנקי של כל אחד מהפרויקטים, והראה כי שיעור התשואה הפנימי של פרויקט א' ושל פרויקט ב' הינו 22% ו-26%, בהתאמה.
- ב. איזה פרויקט עדיף לפי כל אחד מהקריטריונים?
כיצד תסביר את הבדלי הדירוג ביניהם?
מהו הקריטריון הנכון לפיו יש לקבוע באיזה פרויקט להשקיע?

(2) להלן נתונים על תזרימי מזומנים הצפויים משלושה פרויקטים חד-פעמיים המוציאים זה את זה:

IRR	שנה 3	שנה 2	שנה 1	שנה 0	
10%	-	726	-	-600	פרויקט א'
12.63%	11	11	770	-700	פרויקט ב'
5%	-	-	105	-100	פרויקט ג'

החברה הבוחנת את כדאיות הפרויקטים הגיעה למסקנה כי היא אדישה בין האפשרות להשקיע בפרויקט ג' לבין האפשרות לדחותו.
נדרש:

- א. חשב את שיעור התשואה הפנימי של פרויקטים א' ו-ג', והראה כי השת"פ של פרויקט ב' הינו 12.63%.
- ב. באיזה פרויקט, אם בכלל, כדאי לחברה להשקיע?
- ג. כיצד תשתנה תשובתך לסעיף ב' במידה והפרויקטים הם בלתי תלויים?

3) חברה נדרשת לבחון אפשרויות השקעה בשלושה פרויקטים בלתי תלויים: A, B ו-C. בכל הפרויקטים ההשקעה היא מיידית, ובשנים הבאות צפויים ממנו תקבולים חיוביים. מנהל הכספים דירג את הפרויקטים לפי קריטריון NPV ו-IRR בסדר יורד, באופן הבא:

IRR	NPV
A	A
B	C
C	B

נתון כי מנכ"ל החברה החליט לבצע את פרויקט A ולדחות את פרויקט B. נדרש:

האם ניתן לקבוע את כדאיות ההשקעה בפרויקט C? נמק.

4) לפניך שני פרויקטים "טהורים" (פרויקטים של השקעה). ידוע כי לפרויקט א' שת"פ של 15%, לפרויקט ב' שת"פ של 20%, וכי הגרפים של שני הפרויקטים נחתכים. נדרש לקבוע לגבי כל טענה באם היא נכונה או לא:

- משקיע הדורש תשואה של 0% יהיה אדיש בין שני הפרויקטים.
- משקיע הדורש תשואה של 10% בהכרח יעדיף את פרויקט א'.
- משקיע הדורש תשואה של 17% בהכרח יעדיף את פרויקט ב'.
- משקיע הדורש תשואה של 22% יימנע מהשקעה בכל אחד מהפרויקטים.
- לא ניתן לדעת מה יחליט משקיע הדורש תשואה של 15% מבלי לדעת מה ה-NPV של הפרויקטים.

5) בפני חברה עומדים 3 פרויקטים בעלי תזרימי המזומנים הבאים:

שנה 0	שנה 1	שנה 2	שנה 3	
-8,000	9,600	-	-	פרויקט א'
-10,000	-	12,996	-	פרויקט ב'
-5,000	-	-	6,655	פרויקט ג'

להלן נתונים נוספים:

- כל פרויקט ניתן לביצוע פעם אחת בלבד.
- לחברה אין מגבלת תקציב.
- מחיר ההון המתאים לסיכון של כל הפרויקטים שלעיל הינו 8%.

נדרש :

- א. חשב עבור כל אחד מהפרויקטים שלעיל את הקריטריונים הבאים :
 .PP , IRR , NPV
- ב. הנח כי הפרויקטים בלתי תלויים.
 מהו הקריטריון המתאים לדירוג במקרה זה?
 מה תהיה מדיניות ההשקעה האופטימלית של החברה?
- ג. הנח כי הפרויקטים מוציאים זה את זה.
 מהו הקריטריון המתאים לדירוג במקרה זה?
 מה תהיה מדיניות ההשקעה האופטימלית של החברה?

6) אופיר מאגדי בוחן מספר פרויקטים בלתי תלויים בהם ניתן להשקיע :

ערך נוכחי נקי	השקעה ראשונית	
55,000	250,000	פרויקט 1
-3,750	75,000	פרויקט 2
35,000	175,000	פרויקט 3
40,500	225,000	פרויקט 4
20,000	100,000	פרויקט 5
10,000	200,000	פרויקט 6

הנח כי ניתן לבצע פרויקטים באופן חלקי.

נדרש :

- א. הסבר את המושג "אינדקס רווחיות", וחשב אותו עבור כל אחד מהפרויקטים.
- ב. מה תהיה ההשפעה על אינדקס הרווחיות, במידה ויהיה ביצוע חלקי של 60% בלבד מכל פרויקט?
- ג. מהי תוכנית ההשקעה האופטימלית כאשר ההון העומד לרשות המנהל אינו מוגבל?
- ד. מהי תוכנית ההשקעה האופטימלית, כאשר ההון העומד לרשות המנהל מוגבל ל-500,000 ₪?
- ה. כיצד תשתנה תשובתך לסעיף ד', במידה וביצוע חלקי פרויקטים אינו אפשרי?

- 7) חברת "מאגדי ובניו" מעוניינת לרכוש מכונת פחיות אשר תשמש אותה לנצח. בפני החברה עומדות שתי חלופות השקעה, הזהות בכושר הייצור שלהן:

עלות מכונה	אורך חיי המכונה	
5,000	5 שנים	מכונה א'
9,000	8 שנים	מכונה ב'

מחיר ההון המתאים לסיכון של כל הפרויקטים שלעיל הינו 6%.
נדרש:
איזו מכונה עדיפה לחברה?

- 8) חברת "שוש אוכל ביתי" צריכה לבחור באחד מבין שני סוגי מכונות (כל הערכים ב-₪):

מכונה א'	מכונה ב'	
100,000	90,000	השקעה (עלות רכישה)
5,000	5,500	הוצאות תפעול שנתיות
6 שנים	5 שנים	אורך חיים
20,000	15,000	תמורה ממכירה בתום חיייה

על החברה תמיד להחזיק במכונה.
עלות ההון של החברה הינו 10%.
נדרש:
איזו מכונה עדיפה לחברה?

- 9) בפני סבתא דליה עומדים מספר פרויקטים המוציאים זה את זה:

ד'	ג'	ב'	א'	
18,000	30,000	30,000	24,000	השקעה (עלות רכישה)
5,000	8,000	6,000	10,000	תזרים שנתי
15 שנים	10 שנים	15 שנים	5 שנים	אורך חיים

הנח כי כל אחת מההשקעות מתחדשת.
מחיר ההון של החברה הינו 16%.
נדרש:
עזרו לסבתא דליה לדרג את הפרויקטים לפי סדר כדאיותם.

10 אופיר מאגדי, מנכ"ל חברת "דפוס מאגדים", אשר משתמשת במכונה שעלותה 150,000 ₪ ואורך חייה 6 שנים. מייצרת תזרים מזומנים בגובה 52,000 ₪ בסוף כל שנה. בחברה שוקלים את האפשרות להשתמש במכונה במשך 6 שנים, או למכרה ולהחליפה במכונה חדשה מאותו הדגם בטרם ימוצו חייה הכלכליים. להלן נתונים לגבי שווי השוק של המכונה בתום כל שנת שימוש בה ב-₪:

שנה	שווי שוק
4	75,000
5	40,000
6	7,500

מחיר ההון המתאים לסיכון הינו 11%.

נדרש:

קבע את מדיניות ההחלפה האופטימלית של המכונה.

11 להלן תזרימי המזומנים הצפויים משני פרויקטים המוציאים זה את זה:

תזרים בעוד 5 שנים	השקעה בהווה	
75,000	25,000	פרויקט א'
45,000	10,000	פרויקט ב'

הנח כי תזרימי המזומנים של כל פרויקט מתקבלים בסוף כל שנה, וכי מחיר ההון הרלוונטי לכל אחד מהפרויקטים הינו 10%.

נדרש:

א. חשב את הערך הנוכחי הנקי של כל אחד מהפרויקטים.

ב. חשב את שיעור התשואה הפנימי של פרויקט א' ושל פרויקט ב'.

12 מר מאגדי שוקל השקעה באחד מבין שני הפרויקטים הבאים:

שנה 4	שנה 3	שנה 2	שנה 1	שנה 0	
5,000	5,000	5,000	5,000	-12,000	פרויקט א'
16,000	5,000	2,500	-	-12,000	פרויקט ב'

מחיר ההון הרלוונטי לכל אחד מהפרויקטים הינו 10%.

נדרש :

- א. חשב את הערך הנוכחי הנקי של כל אחד מהפרויקטים.
 ב. הראה כי שיעור התשואה הפנימי של פרויקט א' ושל פרויקט ב' הינו 24% ו-21%, בהתאמה (בקירוב).
 ג. איזה פרויקט עדיף לפי כל אחד מהקריטריונים?
 כיצד תסביר את הבדלי הדירוג ביניהם?
 ד. מהו הקריטריון הנכון לפיו יש לקבוע באיזה פרויקט להשקיע?

13) מר יהל שוקל השקעה באחד מבין שני הפרויקטים הבאים :

שנה 2	שנה 1	שנה 0	
-	155,000	-125,000	פרויקט א'
144,000	-	-100,000	פרויקט ב'

מחיר ההון הרלוונטי לכל אחד מהפרויקטים הינו 10%.

נדרש :

- א. חשב את הערך הנוכחי הנקי של כל אחד מהפרויקטים ואת השת"פ של כל פרויקט.
 ב. הראה כי מחיר ההון עבורו תהיה החברה אדישה בין שני הפרויקטים הנו כ-13.78%.
 ג. בהמשך לסעיף ב', עבור איזה טווח של מחירי הון כדאי לחברה לבחור בכל אחד מהפרויקטים?

14) בפני חברה עומדת האפשרות להשקיע בשני הפרויקטים הבאים, המוציאים זה את זה :

- שני הפרויקטים הינם "טהורים".
- ה-IRR של פרויקט A הינו 50%.
- סך תזרימי המזומנים הבלתי מהוונים של פרויקט B גבוהים יותר מאלו של פרויקט A.

נדרש :

- א. התווה את גרף ה-NPV כפונקציה של r עבור כל פרויקט (הנח כי שני הגרפים נחתכים ברביע הראשון).
 ב. באיזה פרויקט כדאי לחברה להשקיע בהנחה שמחיר ההון שלה הינו 60%?
 ג. באיזה פרויקט כדאי לחברה להשקיע בהנחה שמחיר ההון שלה הינו 0%?
 ד. באיזה פרויקט כדאי לחברה להשקיע בהנחה שמחיר ההון שלה הינו 20%?

תשובות סופיות:

- (1) א. 14,920 , 20,865 ב. ראה סרטון.
- (2) א. ראה סרטון. ב. א' ג. בכולם, לגבי פרויקט ג' אדישים.
- (3) נדחה.
- (4) א. שגויה. ב. שגויה. ג. נכונה. ד. נכונה. ה. שגויה.
- (5) א. NPV : 283 , 1,142 , 889 . IRR : 10% , 14% , 20% . PP : 109.8 , 640 , 960 .
- ב. ראה סרטון. ג. ראה סרטון.
- (6) א. 0.22 , -0.05 , 0.2 , 0.18 , 0.2 , 0.05 . ב. אין השפעה.
- ג. כולם מלבד פרויקט 2. ד. 1 , 5 , 3 . ה. 1 , 4 .
- (7) ב'
- (8) א'
- (9) א' , ג' , ד' , ב'
- (10) כל 4 שנים.
- (11) א. 17,941 , 21,569 ב. 36% , 24,57%
- (12) א. 4,750 , 3,849 ב. הוכחה. ג. ראה סרטון. ד. ראה סרטון.
- (13) א. 20% , 24% , 15 , 900 ב. הוכחה. ג. עד 13.7% ב' , מ-13.7%-24% א'.
- (14) א. ראה סרטון. ב. אף אחד. ג. ב' ד. לא ידוע.

יסודות המימון ושימושם בשומת מקרקעין

פרק 16 - בניית תזרים מזומנים (שימוש בלוחות היוון)

תוכן העניינים

1. כללי 87

בניית תזרים מזומנים (שימוש בלוחות היוון):

שאלות:

- (1) פירמה בודקת כדאיות השקעה בפרויקט הבא :
 השקעה בציוד בסך 1000 ₪ כאשר לצורך הפעלת הציוד נדרש להשקיע סכום של 100 ₪ נוספים בהרכבה. לחברה יש הון חוזר בסך 500 ₪.
 הפרויקט יפעל במשך 10 שנים שבמהלכו יהיו הכנסות של 400 ₪ כל שנה.
 הפרויקט יגרום להפסד הכנסות של 100 ₪ לשנה בפרויקטים אחרים במפעל.
 ערך הגרט של הציוד 200 ₪ ובסוף חיי הפרויקט הציוד יימכר ב-150 ₪.
 מחיר ההון של החברה 6%, האם הפרויקט רווחי?
- (2) משקיע בודק כדאיות של ייצור מוצר חדש. ההשקעה ל-7 שנים.
 עלות הציוד הנדרש 600,000 ₪. בנוסף להשקעה בציוד נדרשת השקעה בהון חוזר בהיקף של 50,000 ₪ לזמן הפרויקט. כדי להעריך את היקף המכירות בוצע סקר בעלות של 25,000 ₪. היקף המכירות הצפוי 100,000 יחידות בשנה שימכרו במחיר של 3 ₪ ליחידה. בייצור המוצרים יש הוצאה משתנה של 0.5 ₪ ליחידת מוצר. ייצור המוצר החדש, יגרום לירידה במכירות של מוצרים קיימים בהיקף שנתי של 20,000 ₪. מחיר ההון 5% והמפעל פטור ממיסים.
 האם הפרויקט רווחי?
- (3) פירמה בודקת כדאיות השקעה בפרויקט הבא :
 רכישת מכונה בסך 50,000 ₪ שאורך חייה 8 שנים, כל שנה יש לרכוש 3000 יחידות בעלות של 4 ₪ ליחידה. את היחידות ניתן למכור לאחר עיבוד בסך 10 ₪ ליחידה.
 לחברה גידול בהון החוזר בסך 10,000 ₪. החברה יכולה לקבל סבסוד בסך 10% מסכום ההשקעה. החברה יכולה למכור את המכונה בתום חייה במחיר של 10,000 ₪.
 מחיר ההון של החברה 10%, מס חברות 20% ומס רווח הון 50%.
- (4) פירמה בודקת כדאיות השקעה בפרויקט הבא :
 רכישת מכונה בסך 40,000 ₪ שאורך חייה 4 שנים, כל שנה יש להעסיק 2 עובדים בעלות של 4000 ₪ לעובד. המכונה מייצרת תפוקה שנתית בסך 12,000 ₪.
 החברה יכולה למכור את המכונה בתום חייה במחיר של 5000 ₪.
 פחת על המכונה למשך שנתיים.
 מחיר ההון של החברה 10%, מס חברות 20% ומס רווח הון 50%.

- (5) חברה בוחנת רכישת מכונה שאורך חייה 10 שנים. ערך המכונה מופחת על פי שיטת פחת קו ישר וההכנסות מהמכונה הן 100,000 ₪ לשנה. מה סכום הכסף המקסימלי שהחברה תהיה מוכנה להשקיע במכונה במידה ומחיר ההון של החברה 10%, מס רווח הון 50% ומס חברות 15%?
- (6) מכונת דפוס עולה 10,000 ₪ ואורך חייה 10 שנים. המכונה מופחתת למשך 5 שנים. העלות המשתנה של צילום הינה 0.1 ₪. הרווח על כל צילום 0.2 ₪. מה מספר הצילומים המינימלי לשנה שיהפוך את רכישת המכונה לכדאית במידה ומחיר ההון של החברה 8%, מס חברות 20% ומס רווח הון 30%?
- (7) פירמה שוקלת רכישת אחת ממכונות הייצור הבאות:
- א. מכונה אוטומטית ללא מגע יד אדם שעלותה 1,000,000 ₪, עלות הפעלתה השנתית 135,000 ₪ לשנה, אורך חייה 4 שנים.
- ב. מכונה ידנית שעלותה 625,000 ₪, עלות הפעלתה השנתית 320,800 ₪ לשנה, אורך חייה 6 שנים.
- הכנסת המפעל השנתית הינה 575,000 ₪. מחיר ההון של החברה 8%, מהי המכונה העדיפה?
- (8) חברה שוקלת רכישת קו ייצור, בפניה 2 חלופות:
- א. השקעה בקו ייצור אוטומטי בסך 100,000 ₪ שיניב תזרים של 85,000 ₪ לשנה במשך שנתיים.
- ב. השקעה בקו ייצור ידני בסך 200,000 ₪ שיניב תזרים של 80,000 ₪ לשנה במשך חמש שנים.
- פחת למשך שנתיים בשתי החלופות. מחיר ההון 5% לשנה, מס חברות 15% ומס רווח הון 35%. איזה קו החברה תעדיף?
- (9) חברת "מאג קפה" רכשה לפני 7 שנים מכונה במחיר של 6500 ₪. המכונה מופחתת במשך 20 שנה. ניתן למכור את המכונה כיום ב-2000 ₪. החברה שוקלת להחליף את המכונה הישנה בחדשה שתעלה 18,500 ₪ ואורך חייה 13 שנים. למכונה החדשה ערך גרט של 5,500 ₪. המכונה החדשה תאפשר הקטנת הוצאות הייצור ב-2500 ₪ לשנה. המכונה החדשה תימכר בתום חייה ב-3000 ₪. מחיר ההון של הפירמה 8%, מס חברות 20%, מס רווח הון 30%.

10 חברת "אופיר הנדסה", רכשה מכונה לפני 3 שנים במחיר של 60,000 ₪. המכונה מופחתת לפי שיטת הקו הישר במשך 8 שנים. המכונה צפויה לייצר תזרים מזומנים שנתי של 10,000 ₪ לשנה, במשך חמש השנים הנותרות. שווי המכונה היום בשוק 40,000 ₪ ולכן החברה מתלבטת האם למכור את המכונה היום, או להמשיך ולהשתמש בה. בהנחה שמחיר ההון של החברה לאחר מס 10% והחברה משלמת מס בשיעור 30%, מס רווח הון 50%. מהו העני"ן התוספתי הנובע מהמשך השימוש במכונה?

11 חברת "ליעד-לעד" מתלבטת בין 2 החלופות הבאות:
 א. לרכוש מכונה שעלותה 100,000 ₪, אורך חייה 10 שנים, אך עליה לרכוש בכל שנה 3000 יחידות מוצר בעלות של 25 ₪ ליחידה.
 ב. לרכוש את החלק מספק חיצוני בעלות של 40 ₪ ליחידה. איזו חלופה טובה יותר?

12 מפעל רוכש כיום 25,000 יחידות מוצר בשנה מספק חיצוני. עלות יחידה 3 ₪. בנוסף קיימות עלויות שנתיות קבועות בסך 120,000 ₪. כל העלויות מתבצעות בסוף שנה. המפעל בוחן ייצור עצמי של המוצר. ההשקעה הנדרשת-3 מיליון ₪. עלות הייצור המשתנה-1 ₪. בנוסף, קיימות עלויות שנתיות קבועות של 25,000 ₪. ההשקעה למשך 10 שנים. מחיר ההון של המפעל 5%, מס חברות 20%. איזו חלופה עדיפה?

13 להלן מספר פרטים לגבי פרויקט מתוכנן:
 המכירות צפויות להיות 2200 ₪ לשנה. ההוצאות השנתיות בגין חומרי גלם ושכר עבודה הן 500 ₪ והפחת השנתי הינו 150 ₪. הוצאות הריבית הן 80 ₪ לשנה ומלבד ההוצאות הנ"ל אין הוצאות צפויות נוספות בגין הפרויקט. בהנחה ששיעור מס חברות 48%, מהו תזרים המזומנים השנתי לאחר מס, לצורך חישוב העני"ן?

14 פירמה מעוניינת להחליף מכונה ישנה במכונה חדשה. המכונה הישנה הופחתה לגמרי בספרים וערכה שווה לאפס, אך היא מסוגלת להמשיך ולייצר 8 שנים נוספות. לחלופין, ניתן למוכרה היום בשוק במחיר של 225,000 ₪. למכונה החדשה אורך חיים של 8 שנים והיא תגדיל את ההכנסות הצפויות ב-450,000 ₪ לשנה. המכונה החדשה מופחתת בשיטת הקו הישר בהתאם לאורך חייה ומחירה היום בשוק 900,000 ₪. הפירמה משלמת מס הכנסה בשיעור של 20% ומס על רווח/הפסד הון בשיעור 50%. מחיר ההון השנתי לאחר מס של הפירמה הינו 8% והריבית השנתית נטולת הסיכון הינה 5%. מה עני"ן החלפת המכונה?

- 15** בחברתך הינך משתמש בדפי צילום שעלותם 0.2 ₪ ליחידה. הוצע לך להקים קו ייצור לדפים. עלות ההקמה הינה 40,000 ₪ וקו כזה יכול לשמש לייצור כל כמות הדפים המבוקשת במשך 4 שנים. מחיר ההון שלך הינו 2% לרבעון. ההוצאות המשתנות לייצור דף באמצעות הקו המוצע יהיו 0.12 ₪ ליחידה. מהי כמות הדפים המינימלית השנתית שתצדיק את הקמת הקו החדש?
- 16** הינך מעוניין לרכוש עסק. לאחר חישובים רבים הגעת למסקנה שהעסקה כדאית. לפתע הבחנת כי השמטת מחישוביך את ההשקעה בגובה W ₪ בהון חוזר. השפעת ההון החוזר על חישוביך:
- תקטין את כדאיותו של הפרויקט.
 - לא ניתן לדעת את השפעת ההון החוזר, ללא ידיעת סכום ההשקעה בהון החוזר.
 - השפעת ההון החוזר תלויה בשיעורי המס בהם חייב העסק.
 - כדאיות הפרויקט תגדל, שכן ההון החוזר, חוזר בתום חיי הפרויקט.
 - לא ניתן לדעת את השפעת ההון החוזר, ללא ידיעת מחיר ההון ואורך חיי הפרויקט.
- 17** סמנו את הקביעה הנכונה:
- מבחינה מימונית אין לרשום את ההשקעה בנכס כהוצאה במועד ביצועה, אלא יש להפחית את ההשקעה כל שנה, בהתאם לאורך החיים הצפוי של הנכס.
 - ההשקעה בנכס לא משקפת רק את מחיר הנכס, שכן נדרש לקחת בחשבון את כל ההוצאות הכרוכות ברכישת הנכס ועד להפעלתו.
 - כל שינוי בזרמי המזומנים, המתרחש בפירמה כתוצאה מהשקעה בנכס חדש, יש לזקוף לזרמי המזומנים של הפרויקט החדש.
 - ההשקעה בהון חוזר מאבדת מערכה במהלך השנים, לכן בתום חיי הפרויקט נדרש להוסיף סכום נמוך יותר מההשקעה בהון החוזר.
 - ה. תשובות ב' ו-ג' נכונות.
- 18** אתם נדרשים לבחון כדאיות השקעה בפרויקט בחברת "בר". החברה משלמת מס בשיעור 36%. תזרים המזומנים לפני מס הצפוי מהפרויקט הינו 4,000 ₪ לשנה. השקעה נדרשת 25,000 ₪. את ההשקעה יש להפחית לפי שיטת הקו הישר במשך 8 שנים. משך הפרויקט 5 שנים, מחיר ההון של החברה לאחר מס 12%, ריבית נטולת סיכון 5% לשנה. עני'ן הפרויקט שווה ל-:
- א. -8,987 ₪.
 - ב. -6,400 ₪.
 - ג. -394 ₪.
 - ד. 2,800 ₪.
 - ה. -5,585 ₪.

19 חברה שוקלת כניסה לפרויקט, עבורו עליה לרכוש ציוד שאורך חייו 4 שנים במחיר 180,000 ₪. ההכנסה השנתית מהפעלת הציוד הינה 120,000 ₪. ההוצאות הצפויות לתחזוקה הן 20,000 ₪ לשנה ראשונה ומתייקרות כל שנה ב-50% לעומת העלות בשנה שקדמה לה. למפעל אושר פחת במשך שנתיים (בשיטת הקו הישר). מחיר הון הפירמה לאחר מס 6% לשנה. שיעור המס 40%. ההכנסות, ההוצאות ותשלומי המס הן בסוף כל שנה. העניין הנובע מרכישת הציוד והפעלתו הוא:

א. 44,925 ₪.

ב. 56,462 ₪.

ג. 43,962 ₪.

ד. 61,806 ₪.

ה. אף תשובה אינה נכונה.

תשובות סופיות:

(1) כן	(2) כן	(3) כן	(4) לא
(5) 575,882	(6) 15,210	(7) ב'	(8) ב'
(9) 2,622.49	(10) 3,683.3	(11) א'	(12) ספק
(13) 956	(14) 1,426,837.5	(15) 211,338	(16) א'
(17) ה	(18) א'	(19) ה	

יסודות המימון ושימושם בשומת מקרקעין

פרק 17 - שחזורי שאלות הערכת פרויקטים (תזרים מזומנים)

תוכן העניינים

1. שחזורי שאלות הערכת פרויקטים (תזרים מזומנים) 92

שחזורי שאלות הערכת פרויקטים (תזרים מזומנים):

שאלות:

- (1) חברת "ליעד לעד" רכשה מכונה בעלות של 50,000 ₪, המופחתת לצורכי מס על פני תקופה של 5 שנים. הנח כי שיעור המס שחל על החברה הנו 30%, וכי מחיר ההון שלה הנו 8%.
נדרש:
מה החיסכון הכלכלי במונחים של היום שהיה נובע לחברה אילו מס ההכנסה היה מכיר בעלות המכונה כהוצאה רגילה ולא כהשקעה?
- (2) חברה לייצור מכשירי וידאו מסוגלת לייצר ולמכור 200,000 יחידות בשנה. כיום, קונה החברה אריזות מספק חיצוני בעלות של 9 ₪ לכל אריזה. מנהל הלוגיסטיקה של החברה בוחן אפשרות של מעבר לייצור האריזות באופן עצמי במקום רכישתן מהספק. המנהל בדק ומצא כי ניתן לרכוש מכונת ייצור בעלות של 1,040,000 ₪, באמצעותה ניתן יהיה לייצר אריזות זהות לאלו הנרכשות מהספק בעלות של 7.5 ₪ בלבד לכל אריזה. הנח כי אורך החיים הכלכלי של המכונה הנו 15 שנים, אולם לצורכי מס ניתן להפחיתה על פני 13 שנים בלבד. בנוסף, ידוע כי שיעור מס החברות שחל על החברה הנו 40%, ומחיר ההון שלה 14%.
נדרש:
האם כדאי לחברה להתחיל לייצר אריזות באופן עצמי, או להמשיך ולרכוש אותן מספק חיצוני?
- (3) חברה קנתה מכונה בסכום של 145,000 ₪ לפני שנתיים המופחתת על פני 5 שנים. החברה מתלבטת האם להמשיך ולהשתמש במכונה הקיימת במשך 5 שנים נוספות ולייצר באמצעותה תזרים מזומנים תפעולי לפני מס בסך 13,000 ₪ בסוף כל שנה, או לחילופין לרכוש מכונה חדשה אשר תחליף את הקיימת. להלן נתונים נוספים הידועים לך:
- עלות המכונה החדשה הנה 180,000 ₪, אורך חיים הנו 6 שנים, וניתן לייצר באמצעותה תזרים מזומנים תפעולי לפני מס בגובה 28,000 ₪ בסוף כל שנה.
 - ניתן למכור היום את המכונה הישנה תמורת סכום של 125,000 ₪.
 - שיעור המס החל על החברה הנו 30%.
 - מחיר ההון של החברה הנו 12%.
- נדרש:
האם כדאי לחברה להחליף את המכונה הקיימת במכונה החדשה?

- 4) הקמת חברה לשיווק טלפונים סלולאריים כמשווק מורשה. באפשרותך לרכוש כל מכשיר בסכום של 2,000 ₪, אותו אתה מתכנן למכור תמורת סכום של 3,000 ₪. להלן נתונים לגבי כמויות של רכישות ומכירות צפויות של מכשירים במהלך 4 השנים הקרובות:

שנה 4	שנה 3	שנה 2	שנה 1	
5,000	8,000	7,000	5,000	מכשירים שתרכוש
10,000	7,000	5,000	3,000	מכשירים שתמכור

- 25% מהמכירות מבוצעות באשראי לקוחות לתקופה של שנה. היתרה במזומן ביום המכירה.
 - 10% מהרכישות מבוצעות באשראי ספקים לתקופה של שנה. היתרה במזומן ביום הקנייה.
 - שיעור המס 25%.
- חשב את תזרים המזומנים שתייצר החברה בכל אחת מ-5 השנים הקרובות.
- 5) כלכלן מעוניין להעריך כדאיות השקעה בפרויקט חדש העומד בפני חברה לה הוא מייעץ. לשם כך, הניח הכלכלן את הנתונים הבאים:
- i. הפרויקט צפוי להניב הכנסות בגובה 1500 ₪ בכל חודש, לצמיתות.
 - ii. הוצאות בגין רכישות חומרי גלם יעמדו על 300 ₪ לחודש.
 - iii. הוצאות ייצור חודשיות אחרות כוללות:
- מינוי ראש פרויקט חדש, אשר שכרו החודשי יעמוד על 200 ₪.
 - העמס שכר עובדי ייצור בסך 100 ₪ לחודש של עובדים קבועים הקיימים בארגון, שכרגע אינם פועלים במלוא תפוקתם.
 - העמסת הוצאות חשמל בסך 50 ₪ לחודש בגין פעילות הייצור.
 - העמסת הוצאות פחת של מכונת הייצור בסך 200 ₪ לחודש.
- המכונה נרכשה בעבר ומשמשת גם עבור פרויקטים אחרים של החברה, אם כי לא בניצולת מלאה.
- העמסת שכר דירה של שטח המפעל בסך 150 ₪ לחודש.

- העמסת הוצאות הנהלה וכלליות והוצאות שיווק בסך 100 ₪, בעיקר בשל שימוש בתשתית ההנהלה הקיימת ובכלל זה הנהלת החשבונות, השיווק ההנהלה הבכירה ואחרות.

iv. לצורך הפרויקט יוקצה שטח של 100 מ"ר לאחסנת מלאי במחסני החברה (המצויים בבעלותה). החברה יכולה להשכיר שטח זה לחיצוניים בתמורה ל-2 ₪ למ"ר.

v. לצורך פיתוח הטכנולוגיה הנדרשת לפרויקט, הוצא בשנה שעברה סכום של 40,000 ₪.

vi. מחיר ההון החודשי של החברה הינו 1%, והחברה אינה משלם מיסים.

נדרש:

בנה את תחזית תזרימי המזומנים של הפרויקט, וקבע האם כדאי לחברה להשקיע בו.

(6) חברת "איריס" בוחנת רכישת ציוד בעלות של 840,000 ₪. אורך חיי הציוד הינו 8 שנים והוא צפוי להניב תזרים מזומנים תפעולי לפני מס בגובה 250,000 ₪ בסוף כל אחת מהשנים בהן הוא פועל. כמו כן, הנח כי:

- את הציוד ניתן להפחית לצורכי מס על פני 5 שנים, ללא ערך גרט.

- החברה משלמת מס חברות בשיעור של 40%.

- מחיר ההון של החברה הינו 10%.

נדרש:

א. בנה תזרים מזומנים חזוי לפרויקט רכישת הציוד.

ב. חשב את הערך הנוכחי של פרויקט רכישת הציוד, וקבע האם כדאי לחברה לבצעו.

(7) חברת "נפטון" החליטה על ביצוע קידוח נפט. לשם כך, ערכה החברה בשנתיים האחרונות סקר קרקע מקיף בעלות של 500,000 ₪ אשר קבע הצלחה צפויה לקידוח. לשם ביצוע הקידוח נדרשת מהחברה השקעה בסך של 4.7 מיליון ₪ במכונות וציוד.

אורך חיי המכונות והציוד הנרכשים הינו 6 שנים והם בעלי ערך גרט של 200,000 ₪ (הנח כי בתום הקידוח ניתן למכור את המכונות והציוד בערך הגרט שלהן).

לאחר הקידוח, צפויה לחברה הכנסה שנתית בסך 1.7 מיליון ₪ ב-3 השנים הראשונות, ו-1.4 מיליון ₪ ב-3 השנים שלאחר מכן. עלויות התפעול הן 300,000 ₪ בשנה לאורך כל שנות הפרויקט. כמו כן, הנח כי:

- המכונות והציוד מופחתים לצורכי מס בשיטת הקו הישר במשך 3 שנים.

- שיעור המס שחל על החברה הינו 40%.

- מחיר ההון של החברה הינו 8%.

נדרש:

האם ביצוע הקידוח כדאי לחברה?

- (8) חברה לייצור מכשירי וידאו מסוגלת לייצר ולמכור 200,000 יחידות בשנה. כיום, קונה החברה אריזות מספק חיצוני בעלות של 9 ₪ לכל אריזה. מנהל הלוגיסטיקה של החברה בוחן אפשרות של מעבר לייצור האריזות באופן עצמי במקום רכישתן מהספק. ידוע כי ניתן לרכוש מכונת ייצור בעלות של 1,040,000 ₪, באמצעותה ניתן יהיה לייצר אריזות זהות לאלו הנרכשות מהספק בעלות של 7.5 ₪ לכל אריזה. למכונה אין ערך גרט, והיא תופחת לצורכי מס בשיטת הקו הישר על פני 13 שנים. כמו כן הנח כי:
- אורך החיים הכלכלי של המכונה הינו 15 שנים.

- המעבר לייצור עצמי יביא לגידול מידי בהון חוזר בסכום של 260,000 ₪.
- שיעור המס החברות שחל על החברה הינו 40%, ומחיר ההון שלה הינו 14%.

נדרש:

האם כדאי לחברה להתחיל לייצר אריזות באופן עצמי או להמשיך ולרכוש אותן מספק חיצוני?

- (9) חברת "אסקימו" בע"מ (להלן: "החברה"), מעוניינת לרכוש מכונה חדשה לייצור גלידה אמריקאית. לשם כך, פנתה החברה לחברת "מומו" בע"מ אשר הציע לה שניים מבין דגמי המכונות המובילים כיום בשוק: דגם "בנצי" ודגם "יוד'לה". להלן נתונים לגבי כל אחד מהדגמים המוצעים:

דגם "יוד'לה"	דגם "בנצי"	
210,000 ₪	110,000 ₪	מחיר המכונה
10,000 ₪	25,000 ₪	עלות תפעול ואחזקה שנתית
14 שנים	11 שנים	אורך חיי המכונה
	59,792 ₪	מחיר מכירה של המכונה בתום חייה

נתונים נוספים:

- פרט לאמור לעיל, לא קיימים הבדלים נוספים בין שני הדגמים.
- עלויות תפעול ואחזקה מבוצעות ביום האחרון של השנה.
- שני הדגמים מופחתים לפי שיטת הקו הישר, ללא ערך גרט.
- מחיר ההון השנתי של החברה הינו 10%.
- שיעור מס החברות ומס רווחי ההון שחל על החברה הינו 40%.
- החברה רווחית ונהנית מכל מגן מס.

- החברה אינה צפויה להפסיק לייצר גלידה אמריקאית בעתיד הנראה לעין, כלומר כאשר מכונה מסוימת את חייה, תרכוש החברה מכונה חדשה במקומה, באותם תנאים.

נדרש:

- א. חשב את הערך הנוכחי הנקי החד פעמי של כל אחד מהדגמים המוצעים.
 ב. איזה דגם יועדף ע"י החברה?

תשובות סופיות:

(1)	3,021	(2)	ייצור עצמי	(3)	לא כדאי	(4)	ראה סרטון
(5)	כדאי	(6)	א. ראה סרטון	ב. 214,980	(7)	כדאי	
(8)	ייצור עצמי	(9)	א. בנצי: -168.8, יודילה: -210	ב. בנצי			

יסודות המימון ושימושם בשומת מקרקעין

פרק 18 - אי וודאות

תוכן העניינים

1. כללי 97

אי וודאות:

שאלות:

(1) חשב תוחלת, ס.ת. ושונות:

פרויקט A		פרויקט B	
הסתברות	NPV ₪	הסתברות	NPV ₪
0.5	1000	0.4	950
0.5	1500	0.2	2000
		0.3	300

(2) חשב תוחלת, שונות וס.ת. לכל אחת מהחלופות:

השקעה ב	
הסתברות	רווח
0.2	120
0.3	220
0.4	380
0.1	500

השקעה א	
הסתברות	רווח
0.2	50
0.2	150
0.3	350
0.2	600

(3) במחקר גילו כי לפרט מסוים יש פונקציית תועלת מכסף הנתונה על ידי הטבלה הבאה:

תועלת	0	15	33	75	135
כסף	0	1500	3000	7500	15000

מכאן ניתן להסיק כי:

- א. לפרט יש תועלת שולית מכסף, ההולכת ופוחתת.
- ב. הפרט בתחומים מסוימים של עושר אוהב סיכון ובתחומים אחרים דוחה סיכון.
- ג. הפרט דוחה סיכון.
- ד. לפי הנתונים ברור כי נפלו טעויות במחקר.
- ה. הפרט אוהב סיכון.

4) איזו השקעה עדיפה ע"פ קריטריון מקסימום תוחלת?

פריקט A		פריקט B	
x	p	x	p
800	0.2	1500	0.1
300	0.2	100	0.4
1000	0.4	500	0.5

5) איזו חלופה עדיפה ע"פ קריטריון מקסימום תוחלת?

ג		ב		א	
הסתברות	X	הסתברות	X	הסתברות	X
0.3	100	0.5	100	1	200
0.2	200	0.5	300		
0.4	300				

6) איזו השקעה עדיפה ע"פ קריטריון מקסימום תוחלת שונות?

פריקט A		פריקט B	
x	p	x	p
100	0.4	50	0.1
300	0.2	500	0.4
400	0.4	200	0.5

7) איזו השקעה עדיפה ע"פ קריטריון מקסימום תוחלת שונות?

A	B
100	50
300	250
400	500
200	300

- 8) איזו השקעה עדיפה ע"פ קריטריון מקסימום תוחלת תועלת בהנחה שפונקציית התועלת של המשקיע $U_x = X^{0.5}$?

פריקט A		פריקט B	
x	p	x	p
2500	0.4	3600	0.5
1225	0.6	400	0.5

- 9) איזו השקעה עדיפה ע"פ קריטריון מקסימום תוחלת תועלת בהנחה שפונקציית התועלת של המשקיע $U_x = X^2 + 100$?

פריקט A		פריקט B	
x	p	x	p
10	0.5	15	0.3
20	0.5	30	0.2

- 10) איזו השקעה עדיפה ע"פ קריטריון מקדם ההשתנות?

פריקט A		פריקט B	
x	p	x	p
2500	0.4	3600	0.5
1225	0.6	400	0.5

- 11) איזו השקעה תעדיף ע"פ קריטריון FSD?

פריקט A		פריקט B	
x	p	x	p
10	0.5	10	1
20	0.5		

12) נתונים הפרויקטים הבאים :

פרויקט A		פרויקט B	
x	p	x	p
10	0.25	10	0.5
20	0.5	30	0.5
30	0.25		

לפי קריטריון FSD :

- א. פרויקט A עדיף על B.
- ב. פרויקט B עדיף על A.
- ג. המשקיע אדיש בין ההשקעות.
- ד. לא ניתן לקבל החלטה.
- ה. אף תשובה אינה נכונה.

13) נתונים הפרויקטים הבאים :

פרויקט A		פרויקט B	
x	p	x	p
10	0.25	10	0.5
20	0.5	30	0.5
30	0.25		

לפי קריטריון SSD :

- א. פרויקט A עדיף על B.
- ב. פרויקט B עדיף על A.
- ג. המשקיע אדיש בין ההשקעות.
- ד. לא ניתן לקבל החלטה.
- ה. אף תשובה אינה נכונה.

14) בידך הזכות להשקיע בפרויקט שצפוי להניב תקבול של 10 ₪ בהסתברות של 90% ו-0 בהסתברות של 10%. בהנחה שהינך משקיע דוחה סיכון בעל פונקציית תועלת $u(x) = -(x^2) + 20x + 60$, מהו שווה הערך הוודאי שלך?

א. כ-13 ₪.

ב. כ-6 ₪.

ג. כ-7 ₪.

ד. כ-14 ₪.

ה. תשובות א ו-ג נכונות.

15) בידך הזכות להשקיע בפרויקט שצפוי להניב תקבול של 10 ₪ בהסתברות של 90% ו-0 בהסתברות של 10%. בהנחה שהינך משקיע דוחה סיכון בעל פונקציית תועלת $u(x) = -(x^2) + 20x + 60$, חשב את פרמיית הסיכון?

16) בידך הזכות להשקיע בפרויקט שצפוי להניב תקבול של 10 ₪ בהסתברות של 90% ו-0 בהסתברות של 10%. בהנחה שהינך משקיע דוחה סיכון בעל פונקציית תועלת $u(x) = -(x^2) + 20x + 60$, חשב את מכפיל ההתאמה?

17) למשקיע מוצעות תוכניות ההשקעה הבאות:

השקעה ב		השקעה א	
ענ"נ	הסתברות	ענ"נ	הסתברות
-50	0.5	-100	0.5
70	0.5	120	0.5

סמנו את הקביעה הנכונה:

- אפשר לקבוע בוודאות שהמשקיע יהיה אדיש בין שתי התוכניות.
- משקיע הפועל לפי כלל תוחלת-שוונות יעדיף אמנם את תוכנית ב', אך משקיע הפועל לפי כלל ה-SSD, יהיה אדיש בין שתי התוכניות.
- משקיע דוחה סיכון יעדיף את תוכנית ב'.
- ברור באופן חד-משמעי כי אם אין לנו את פונקציית התועלת של המשקיע, לא נוכל לקבוע איזו תוכנית יעדיף.
- משקיע הפועל לפי כלל תוחלת-שוונות יעדיף את תוכנית א'.

18) משקיע דוחה סיכון משתתף בהגרלה שצפויה לתת 2500 ₪ או 5000 ₪ בהסתברות שווה. מציעים לו להחליף את ההגרלה המקורית ולקבל תמורתה סך של 1000 ₪ במזומן ואת הזכות להשתתף בהגרלה שנותנת 2000 ₪

בהסתברות $\frac{1}{3}$ או 4000 ₪ בהסתברות $\frac{2}{3}$.

האם יסכים להחלפה?

- א. לא, מצבו יורע.
- ב. לא ניתן לקבל החלטה.
- ג. כן, מצבו משתפר.
- ד. תלוי בפונקציית התועלת של המשקיע.
- ה. כל התשובות שגויות.

19) חברה שוקלת הרחבת עסקיה באחת מהאלטרנטיבות הבאות:

אלטרנטיבה 2	
הסתברות	ענ"נ
0.1	100
0.4	200
0.4	400
0.1	500

אלטרנטיבה 1	
הסתברות	ענ"נ
0.2	100
0.3	200
0.3	400
0.2	500

בהנחה שהחברה מקבלת החלטות כמשקיע דוחה סיכון, סמן את הקביעה הנכונה:

- א. אלטרנטיבה 2 עדיפה על פני אלטרנטיבה 1.
- ב. לא ניתן ליצור העדפה, שכן לשתייהן תוחלת ענ"נ זהה.
- ג. אלטרנטיבה 1 עדיפה על פני אלטרנטיבה 2.
- ד. אין דרך להשוות בין האלטרנטיבות ולכן לא ניתן ליצור העדפה ביניהן.
- ה. העדפה מותנית במחיר ההון ומאחר שאינו נתון, לא נוכל להשוות בין האלטרנטיבות.

(20) פונקציית התועלת של משקיע דוחה סיכון היא: $u(x) = \sqrt{x}$ ועומדים בפניו שני פרויקטים המוציאים זה את זה:

פרויקט ב		פרויקט א	
ענ"נ	הסתברות	ענ"נ	הסתברות
0	0.5	100	0.5
400	0.5	200	0.5

סמנו את הקביעה הנכונה:

- פרויקט ב' עדיף במונחי SSD על פרויקט א'.
- פרויקט א' עדיף לפי קריטריון תוחלת-שונות.
- לפי קריטריון תוחלת התועלת המשקיע יעדיף א'.
- תשובות א' ו-ג' נכונות.
- כל התשובות שגויות.

(21) פונקציית התועלת של משקיע דוחה סיכון: $u(x) = 1000x - 10x^2 + 50$. מוצע למשקיע הימור המבטיח את הזכייה הבאה:

הסתברות	זכייה
0.3	10
0.7	50

מהו הסכום המקסימאלי שהיית מוכן לשלם כדי להשתתף בהימור?

- 72 ₪.
- 28 ₪.
- 38 ₪.
- באם המשקיע מתנהג כדוחה סיכון עד 50 ₪ ואילו כאשר מתנהג כאוהב סיכון מעל 50 ₪.
- תשובות א' ו-ב' נכונות.

22 פונקציית התועלת של משקיע אוהב סיכון : $u(x) = -100x + 0.5x^2 + 20$.
 מוצע למשקיע הימור המבטיח את הזכייה הבאה :

זכייה ₪	הסתברות
200	0.8
150	0.2

מהי פרמיית הסיכון בשקלים בערך מוחלט?

- א. 2 ₪.
 ב. 182 ₪.
 ג. 12 ₪.
 ד. מאחר ותוחלת התועלת שלילית, לא ניתן לפתור את השאלה.
 ה. תשובות א' ו-ב' נכונות.

23 בשוק נסחרות המניות הבאות :

מניה	A	B
תוחלת	5%	15%
סטיית תקן	13%	40%

מקדם המתאם בין שתי המניות שווה ל-0.6.
 משקיע מעוניין להשקיע בתיק המורכב משתי המניות ולהשיג תשואה של 12% על השקעתו.
 חשב מהי ס.ת של התיק.

24 בשוק ההון נסחרות שתי מניות בלבד והמשקיע יכול להשקיע במניות אלו בלבד :

מניה	A	B
תוחלת	10%	20%
סטיית תקן	10%	20%

מקדם המתאם בין מניות שווה לאפס.
 סמנו את הקביעה הנכונה, בהנחה שהמשקיע דוחה סיכון :

א. יתכן וישקיע את כל כספו רק במניה B.
 ב. יתכן וישקיע את כל כספו רק במניה A.
 ג. שיעור ההשקעה המקסימאלי שישקיע במניה A הוא 80%.
 ד. תשובות א' ו-ב' נכונות.
 ה. תשובות א' ו-ג' נכונות.

- 25** בשוק נסחרות שתי מניות A ו-B, כאשר ידוע כי תשואת נכס A גבוהה מזו של B וס.ת של נכס A נמוכה מזו של B. סמנו את הקביעה הנכונה, בהנחה שמקדם המתאם בין הנכסים נמוך מ-0:
- משקיע דוחה סיכון לא ישקיע אף פעם במניה B.
 - יכול להיות שמשקיע דוחה סיכון ישקיע גם במניה B.
 - משקיע אדיש לסיכון ישקיע רק במניה A.
 - משקיע דוחה סיכון לא ישקיע אף פעם במניה A.
 - תשובות ב ו-ג נכונות.

26 בשוק נסחרות המניות הבאות:

C	B	A	
21%	16%	12%	תוחלת
8%	6%	4%	סטיית תקן

- מקדמי המתאם בין ניירות הערך הם:
- בין A ל-B 0.3, בין A ל-C 0.1 ובין B ל-C 0.
- אם נבנה תיק משלושת הנכסים במשקולות הבאים:
- 40% השקעה ב-A, 30% השקעה ב-B ואת היתרה נשקיע ב-C, מהי סטיית התקן של תשואת התיק?

- 27** נתון: $E(R_m) = 20\%$; $\sigma(R_m) = 10\%$; $R_f = 4\%$
- בהנחה שמודל CAPM מתקיים בשוק והמשקיעים בוחרים להשקיע את כספם בתיק יעיל המורכב מהשקעה בתיק השוק ובנכס נטול סיכון:
- משקיע א' בוחר תיק יעיל עם תוחלת תשואה של 16% ואילו משקיע ב' בוחר תיק יעיל עם סטיית תקן של 5%.
- סמן את הקביעה הנכונה:
- משקיע א' דוחה סיכון יותר ממשקיע ב'.
 - משקיע ב' דוחה סיכון יותר ממשקיע א'.
 - לא ניתן לדעת מי מהמשקיעים יותר דוחה סיכון.
 - שני המשקיעים דוחי סיכון במידה זהה.
 - שני המשקיעים אוהבי סיכון במידה זהה.

(28) הניחו כי שוק ההון נמצא בשיווי משקל לפי CAPM. נתונים שני תיקי השקעות יעילים A ו-B. תיק B צפוי להניב תשואה כפולה מזו של תיק A אולם סטיית התקן של תיק B גבוהה פי שלוש מזו של תיק A. על פי נתונים אלו, שער ריבית נטול סיכון הוא:

א. $\frac{E(B)}{2}$

ב. $\frac{E(A)}{2}$

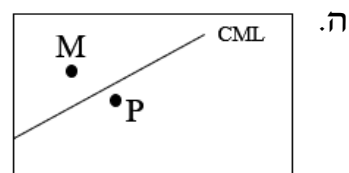
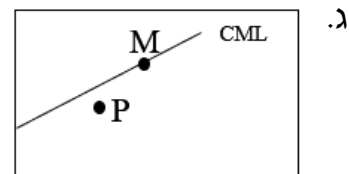
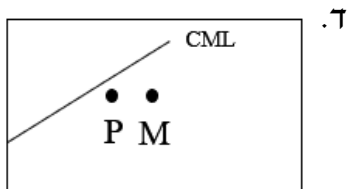
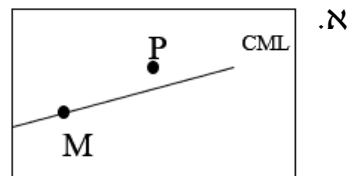
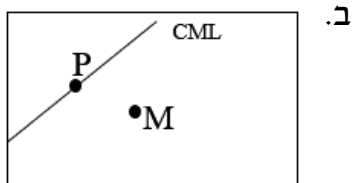
ג. $\frac{E(A)}{3}$

ד. לא ניתן לקבוע ללא נתונים על תוחלת תשואת תיק השוק.

(29) אופיר השקיע את כספו בתיק השקעות יעיל. מנהל התיק הודיע לו כי לכל תוספת של 4% לסיכון (כלומר, לסטיית התקן) על השקעתו, יוכל להגדיל את תוחלת שיעור התשואה ב-4.5%. נאמר לאופיר שפיקדון בבנק מניב תשואה של 5%. מכאן שמשוואת ה-CML היא?

(30) בתרשימים הבאים מציינת הנקודה M את "תיק השוק" והנקודה P מציינת תיק אחר כלשהו. הקו המשורטט הוא "קו שוק ההון" (CML). ציר ה-Y בתרשים מציין את תוחלת תשואת התיק ואילו ציר ה-X מציין את סטיית התקן של תשואת התיק.

איזה מהתרשימים הבאים יתכן בשיווי משקל תחת הנחות ה-CAPM?



31 בשוק נסחרות 2 מניות: מניה א עם β של 3 ותוחלת תשואה של 8% ומניה B עם β של 6 ותוחלת תשואה של 14%.
מה תשואת נכס חסר סיכון ותשואת תיק השוק?

32 מניה מסוימת נסחרת בשוק שמתקיימות בו הנחות ה-CAPM. בעוד שנה צפוי מחיר המניה להיות 100 ₪. השונות המשותפת של תשואת המניה עם תשואת תיק השוק היא אפס, שער ריבית נטול סיכון ותוחלת התשואה של תיק השוק (במונחים שנתיים) הן 5%-ו-9% בהתאמה. מכאן, שמחירה הנוכחי של המניה צריך להיות:

א. 92 ₪.

ב. 95 ₪.

ג. 96 ₪.

ד. 100 ₪.

ה. לא ניתן לדעת מה מחיר המניה כיום, על בסיס ידיעת מחיר המניה בעוד שנה.

33 חברת "מאגדי השקעות" שוקלת להשקיע בפרויקט שעלותו 20,000 ₪ ובתום שנתיים צפוי בו זרם התקבולים הבא:
35,000 ₪ בהסתברות 0.2, 38,000 ₪ בהסתברות 0.4 ו-59,000 ₪ בהסתברות 0.4.
נתון כי מקדם הסיכון השיטתי (ביטא) של הפרויקט 1.2, כמו כן נתון כי תוחלת התשואה השנתית של תיק השוק 35% ושער הריבית השנתי על אג"ח ממשלתי 10%.
מהו עניין הפרויקט?

34 נתון תיק השקעות:

תוחלת תשואה	% השקעה בתיק	נכס
9%	0.3	A
15%	0.4	B
10%	0.3	C

כמו כן ידוע כי תשואת תיק השוק 16%, תשואת נכס נטול סיכון 6%.
מהי ה- β של תיק ההשקעות?

35 למניה מסוימת יש "ביטא" השווה ל-0.60 כפול ה"ביטא" של תיק השוק. מקדם המתאם בין שיעור התשואה על תיק השוק לבין שיעור התשואה על המניה האמורה, שווה ל-0.60. סמן את הקביעה הנכונה:

- א. סטיית התקן של שיעור התשואה על המניה שווה לסטיית התקן של שיעור התשואה על תיק השוק.
 ב. סטיית התקן של שיעור התשואה על המניה שווה ל-0.60 כפול סטיית התקן של שיעור התשואה על תיק השוק.
 ג. המניה הינה מניה אגרסיבית.
 ד. סטיית התקן של שיעור התשואה על המניה שווה ל-1.2 כפול סטיית התקן של שיעור התשואה על תיק השוק.
 ה. המניה האמורה הינה תיק השוק עצמו.

36 מקדם המתאם בין שתי מניות A ו-B הינו 1-
 מניה A - תוחלת תשואה 12% וסטיית תקן של 16%.
 מניה B - תוחלת תשואה 28% וסטיית תקן של 32%.
 איזה מהתיקים הבאים מציג את הסיכון הנמוך ביותר?

- א. תיק ובו מניה A בלבד.
 ב. תיק ובו $\frac{2}{3}$ מ-A ו- $\frac{1}{3}$ מ-B.
 ג. תיק ובו מניה B בלבד.
 ד. תיק ובו 50% מכל אחת מהמניות.
 ה. תיק ובו $\frac{1}{3}$ מ-A ו- $\frac{2}{3}$ מ-B.

37 משקיע דוחה סיכון יכול להשקיע רק בשני הנכסים הבאים:

נכס B	נכס A	
3.8%	7.4%	$E(R_i)$
8%	30%	$\sigma(R_i)$

$$\rho(R_A, R_B) < 0.267$$

סמנו את הקביעה הנכונה:

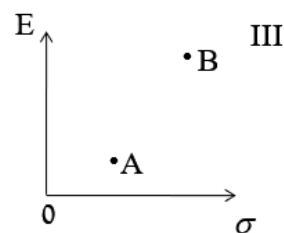
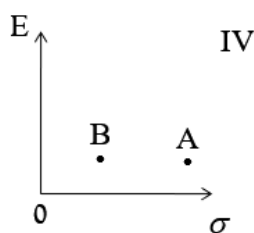
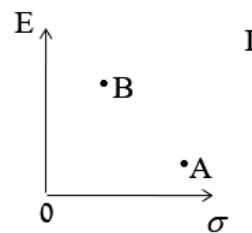
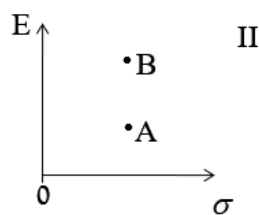
- א. המשקיע עשוי לרכז את כל השקעתו בנכס B הפחות מסוכן, במטרה להפחית סיכון.
 ב. המשקיע בהכרח יבחר להשקיע בתיק המורכב משני הנכסים (A ו-B), במטרה להפחית סיכון.

- ג. המשקיע עשוי לרכז את כל השקעתו בנכס A המסוכן יותר, למרות סיכונו הגבוה.
 ד. המשקיע בהכרח לא יבחר לרכז את כל השקעתו בנכס B הפחות מסוכן.
 ה. תשובות ג' ו-ד' נכונות.

(38) נתונות שתי מניות א' ו-ב'. תוחלת התשואה של כל אחת משתי המניות 30%, אולם בעוד שסטיית התקן של א' 20%, סטיית התקן של ב' 10%. כמו כן ידוע כי אין תלות בין תשואות המניות. סמנו את הקביעה הנכונה:

- א. התיקים המשולבים שניתן לייצר תמיד יהיו עדיפים ממניה א'.
 ב. התיקים המשולבים שניתן לייצר תמיד יהיו עדיפים ממניה ב'.
 ג. התיקים המשולבים שניתן לייצר תמיד יהיו עדיפים על פני השקעה בכל אחת מהמניות בנפרד.
 ד. תשובה ג' נכונה, רק כאשר מקדם המתאם בין המניות שלילי.
 ה. תשובות א' ו-ד' נכונות.

(39) להלן 4 מצבים אפשריים לנכסים A ו-B:



- בהנחה שהמשקיע דוחה סיכון והוא יכול להשקיע רק בנכסים A ו-B, כאשר ידוע שמקדם המתאם ביניהם נמוך מ-0, סמן את הקביעה הנכונה
- א. באף אחד מהמצבים לעיל, לא יבחר המשקיע לרכז את כל השקעתו בנכס A.
 ב. באף אחד מהמצבים לעיל, לא יבחר המשקיע לרכז את כל השקעתו בנכס B.
 ג. בכל אחד מהמצבים לעיל, יבחר המשקיע תמיד להשקיע בתיק המשלב בין הנכסים A ו-B.
 ד. רק במצב IV, יבחר המשקיע לרכז את כל השקעתו בנכס B.
 ה. תשובות א' ו-ד' נכונות.

- 40** נתונות סטיות התקן של שתי מניות א ו-ב : 16% ו-20% בהתאמה.
 מקדם המתאם בין שתי המניות 0.6.
 נבנה תיק ש-30% משוויו מושקע בכל מניה והשאר מושקע בנכס נטול סיכון.
 מהי סטיית התקן של התיק?
- א. 8%
 ב. 10%
 ג. 11%
 ד. 18%
- ה. לא ניתן לחשב את סטיית התקן של התיק, מאחר וחסר נתון לגבי סטיית התקן של הנכס נטול הסיכון.
- 41** נתון : $E(R_m) = 10\%$, $\sigma(R_m) = 10\%$, $R_f = 6\%$.
 משקיע א' בוחר תיק יעיל עם תוחלת תשואה של 7% ואילו משקיע ב' בוחר תיק יעיל עם סטיית תקן של 7%.
 סמנו את הקביעה הנכונה :
- א. משקיע א' דוחה סיכון יותר ממשקיע ב'.
 ב. משקיע ב' דוחה סיכון יותר ממשקיע א'.
 ג. לא ניתן לדעת מי מהמשקיעים יותר דוחה סיכון.
 ד. שני המשקיעים דוחי סיכון במידה זהה.
 ה. שני המשקיעים אוהבי סיכון במידה זהה.
- 42** בהנחה שמודל CAPM מתקיים בשוק :
 נתונות שתי מניות יעילות A ו-B. שיעור התשואה על מניה A הוא 30% ועל מניה B הוא 50%. סטיית התקן של מניה B גדולה פי 2 מסטיית התקן של מניה A .
 מהו שער ריבית חסר סיכון?
- 43** נתון : $E(R_m) = 20\%$; $\sigma(R_m) = 10\%$; $R_f = 4\%$.
 בהנחה שמודל CAPM מתקיים בשוק והמשקיעים בוחרים להשקיע את כספם בתיק יעיל המורכב מהשקעה בתיק השוק ובנכס נטול סיכון :
 משקיע א' בוחר תיק יעיל עם תוחלת תשואה של 16% ואילו משקיע ב' בוחר תיק יעיל עם סטיית תקן של 5%.
 סמן את הקביעה הנכונה :
- א. משקיע א' דוחה סיכון יותר ממשקיע ב'.
 ב. משקיע ב' דוחה סיכון יותר ממשקיע א'.
 ג. לא ניתן לדעת מי מהמשקיעים יותר דוחה סיכון.
 ד. שני המשקיעים דוחי סיכון במידה זהה.
 ה. שני המשקיעים אוהבי סיכון במידה זהה.

תשובות סופיות:

- (1) A : תוחלת- 1250 , שונות- 62500 , ס.ת- 0.250 .
- (2) B : תוחלת- 870 , שונות- 431100 , ס.ת- 0.656.58 .
- (3) א' : תוחלת- 265 , שונות- 43525 , ס.ת- 0.208.6 .
- (4) ב' : תוחלת- 292 , שונות- 14896 , ס.ת- 0.122 .
- (5) א' ו- ב' (6) לא ניתן לקבל החלטה
- (7) לא ניתן לקבל החלטה
- (8) A
- (9) A
- (10) A
- (11) A
- (12) ד' (13) א'
- (14) ג' (15) 2
- (16) 0.77 (17) ג'
- (18) ג' (19) א'
- (20) ג' (21) ב'
- (22) א' (23) 29
- (24) ה (25) ה
- (26) 3.749 (27) ב'
- (28) ב' (29) ראה סרטון
- (30) ג' (31) 2
- (32) ב' (33) ראה סרטון
- (34) 0.57 (35) א'
- (36) ב' (37) ה
- (38) א' (39) א'
- (40) ב' (41) א'
- (42) 10 (43) ב'

יסודות המימון ושימושם בשומת מקרקעין

פרק 19 - שאלון מספר 050218 יסודות המימון ושימושם בשומת מקרקעין

תוכן העניינים

1. שאלון מספר 050218 ביסודות המימון ושימושם בשומת מקרקעין 112

שאלון מספר 050218 ביסודות המימון ושימושם בשומת מקרקעין:

שאלות:

(1) בתאריך 1.1.2019 החליט אופיר כי הוא מעוניין לטוס בעוד שנה מהיום עם שושי לטיול בדרום אמריקה לתקופה של שישה חודשים. הזוג יזדקק לסכום של 4,000 ₪ בכל סוף חודש במהלך השנה בחו"ל. ידוע כי הריבית האפקטיבית השנתית היא 12.68%. מהו הסכום החודשי הקבוע שנדרש מהזוג לחסוך בכל סוף חודש עד למועד הטיסה לחו"ל?

- א. 2,828.
- ב. 2,000.
- ג. 1,828.
- ד. 828.
- ה. 4,000.

(2) בתאריך 1.1.2020 הפקיד אופיר מאגדי סכום חד פעמי בגובה X ₪ בתוכנית חיסכון בבנק. כעבור שנתיים, הצטבר לזכותו סך של 3,025 ₪. כעבור חמש שנים מיום ההפקדה הראשוני, הצטבר לזכותו סך של 4,026 ₪. מהו שיעור הריבית השנתית שתוכנית החיסכון נושאת ומהו הסכום הראשוני אשר הפקיד אופיר בתוכנית חיסכון זו?

- א. הסכום הראשוני: 2,500 ₪, הריבית השנתית: 10%.
- ב. הסכום הראשוני: 2,000 ₪, הריבית השנתית: 10%.
- ג. הסכום הראשוני: 2,500 ₪, הריבית השנתית: 5%.
- ד. הסכום הראשוני: 2,000 ₪, הריבית השנתית: 5%.
- ה. אין מספיק נתונים כדי לענות על שאלה זו.

3) לפניך 3 פרויקטים חד פעמיים ומוציאים זה את זה :

שם הפרויקט	0	1	2
אופיר ושושי	-50	25	25
ליעד ויהל	-25	17	10
עמית ומרום	-100	75	33

שיעור התשואה (מחיר ההון) השנתי הינו : 4% .
להלן 3 טענות לגבי הפרויקטים :

טענה I: הפרויקט בעל שיעור התשואה הפנימי הגבוה ביותר, הוא בעל הכדאיות הגבוהה ביותר.

טענה II: הפרויקט בעל מדד הרווחיות הגבוה ביותר, הוא בעל הכדאיות הגבוהה ביותר.

טענה III: הפרויקט של "אופיר ושושי" הוא הפרויקט אותו נבחר.

בתנאים אלה ובהתבסס על הקריטריונים: NPV, IRR, PI, איזו/אילו מהטענות הנ"ל נכון/ות?

א. טענה I בלבד.

ב. טענה II בלבד.

ג. טענה I + II בלבד.

ד. טענה III בלבד.

ה. כל הטענות שגויות.

4) אופיר מאגדי, שוקל להשקיע את כספו.

לפניו 2 פרויקטים המוציאים זה את זה :

פרויקט A מניב סכום קבוע בגובה 2,000 ₪ בתחילת כל שנה לצמיתות.

פרויקט B מניב סכום סוף שנתי בגובה 1,000 ₪ אשר צומח בשיעור של 1% כל שנה לצמיתות.

שיעור ההיוון המקובל במשק הינו 0.25% לחודש.

בתנאים אלו, איזה מההיגדים הבאים הוא הנכון ביותר?

א. הערך הנוכחי של פרויקט A הוא : 65,755 ₪ והערך הנוכחי של פרויקט B הוא : 50,000 ₪.

ב. הערך הנוכחי של פרויקט A הוא : 800,000 ₪ והערך הנוכחי של פרויקט B הוא : 133,333 ₪.

ג. הערך הנוכחי של פרויקט A הוא : 800,000 ₪ והערך הנוכחי של פרויקט B הוא : 100,000 ₪.

ד. הערך הנוכחי של פרויקט A הוא : 67,754 ₪ והערך הנוכחי של פרויקט B הוא : 50,000 ₪.

ה. כל התשובות שגויות.

- 5) להלן 3 היגדים המתייחסים לקבלת החלטות השקעה בתנאי וודאות:
- I. כאשר שיעור התשואה הפנימי של פרויקט A גבוה משיעור התשואה הפנימי של פרויקט B, המשקיע הסביר יבחר בפרויקט A, מכיוון שפרויקט זה יניב רווח כספי גבוה יותר ללא קשר לרמת הסיכון של הפרויקט.
- II. באם פרויקט א' מניב רווח כספי גבוה יותר מזה של ב', אז שיעור התשואה הפנימי של פרויקט א' יהיה גבוה יותר מזה של פרויקט ב'.
- III. תמיד נכון להקדים תשלומים ולדחות תקבולים.
- בתנאים אלו, איזה מההיגדים הבאים הוא הנכון ביותר?
- א. טענה I בלבד.
 ב. טענה II בלבד.
 ג. טענה II + III בלבד.
 ד. טענה III בלבד.
 ה. כל הטענות שגויות.
- 6) אופיר מאגדי, יזם של פרויקט תמ"א 38, פנה לחברת: "יהל הנדסה" לקבלת הצעת מחיר עבור תוכנית חשמל. "יהל הנדסה" הציע את 2 החלופות הבאות:
- חלופה 1: תשלום מידי של 100,000 ₪.
 חלופה 2: תשלום מידי של 18,000 ₪ במזומן ותשלום בעוד כ-5 חודשים של 84,000 ₪. מהי הריבית האפקטיבית השנתית הגלומה בהצעת החברה?
- א. 0.48%.
 ב. 2%.
 ג. 5.9%.
 ד. 4.8%.
 ה. כל התשובות שגויות.
- 7) שושי החליטה להפקיד סכום חודשי קבוע בגובה 1,000 ₪ בתוכנית חיסכון לארבעת בניה לתקופה של 80 חודשים. תוכנית החיסכון מעניקה ריבית אפקטיבית שנתית בשיעור של: 6.16% לתקופה של 40 חודשים הראשונים, וריבית אפקטיבית שנתית בשיעור של: 12.68% לתקופה של 40 החודשים האחרונים. מהו הסכום שיצטבר לגברת שושי בתוכנית החיסכון בתום 80 החודשים?
- א. 114,631 ₪.
 ב. 121,671 ₪.
 ג. 98,067 ₪.
 ד. 98,558 ₪.
 ה. כל התשובות שגויות.

8) נכס מסחרי במרכז העיר יבנה, מניב סכום של 20,000 בכל שנה לצמיתות. ידוע כי הסכום צומח בשיעור קבוע של 3% לשנה והריבית האפקטיבית השנתית היא: 4%. מה ערכו הנוכחי של הנכס המסחרי?

- א. 2,000,000 ₪.
- ב. 50,000 ₪.
- ג. 66,666 ₪.
- ד. -2,000,000 ₪.
- ה. שווי גבוה מ-50,000 ₪ ונמוך מ-2,000,000 ₪.

9) דירה ברחוב הדרור בעיר יבנה, מושכרת בסכום של 12,000 ₪ בתחילת כל רבעון. שוכר אשר התעניין בנכס לתקופה של 4 שנים, הציע לשלם לבעל הנכס את כל סכום השכירות העתידית בתשלום אחד היום.

מה הסכום שעל בעל הנכס לבקש, באם הריבית האפקטיבית השנתית הינה 4.06%?

- א. 176,614 ₪.
- ב. 178,380 ₪.
- ג. 145,420 ₪.
- ד. 139,827 ₪.
- ה. 192,000 ₪.

10) בתאריך 1.1.20 לווה אופיר מאגדי מהבנק סכום צמוד למדד בסך 200,000 ₪ לתקופה של 10 שנים בהחזרים שנתיים שווים, לצורך רכישת דירה להשקעה. הריבית השנתית על ההלוואה הינה 4% לשנה. להלן הנתונים שהתפרסמו לגבי שיעורי עליית המדד בפועל:

+1.2%	שנת 2020
-0.8%	שנת 2021
+1%	שנת 2022
+0.5%	שנת 2023
+0.3%	שנת 2024
-1.3%	שנת 2025
+0.4%	שנת 2026
+0.9%	שנת 2027
-0.1%	שנת 2028

בנתונים אלו, מהו גובה התשלום אותו ישלם אופיר מאגדי ביום 1.1.24?

- א. 24,754 ₪.
- ב. 25,000 ₪.
- ג. 25,127 ₪.
- ד. 24,658 ₪.
- ה. 24,910 ₪.

11 בחודש מאי 2018 נחתם הסכם שכירות ארוך טווח המתייחס לנכס תעשייתי בצפון העיר יבנה. דמי השכירות שנקבעו לכל התקופה (10 שנה) שיקפו את שווי הנכס לפי שיעור תשואה שנתי של 8.5%. בעקבות הורדת הריבית במשק, שיעור התשואה לנכסים דומים ירד ועומד כעת על 7.5% לשנה. בנסיבות המתוארות, מה השינוי שחל בשווי הנכס? בהנחה ושווי הנכס מחושב כתזרים אינסופי?

א. עלה ביותר מ-12%.

ב. עלה בפחות מ-12%.

ג. ירד בפחות מ-12%.

ד. לא חל שינוי בשווי הנכס.

ה. לא ניתן לחשב את השינוי שחל בנכס.

12 מחירה של דירת 4 חדרים חדשה בעיר יבנה, צפויה להיות בעוד 10 שנים 1,700,000 ₪. אופיר ושושי החליטו להתחיל לחסוך על מנת להשיג את הסכום הדרוש. לשם כך, ביצעו היום הפקדה ראשונית של 600,000 ₪ בתכנית חיסכון נושאת ריבית שנתית של 2%.

מהו הסכום הנוסף החד פעמי שעל הזוג להפקיד בעוד 5 שנים על מנת שבתום 10 השנים כאמור, ייצברו את הסכום שיאפשר להם לרכוש את הנכס?

א. 877,294 ₪.

ב. 1,100,000 ₪.

ג. 655,423 ₪.

ד. 968,603 ₪.

ה. כל התשובות שגויות.

13 בבעלות יהל דירה שהוא מעוניין להשכיר לליעד. בחוזה בין הצדדים נקבע כי התשלום בגין שכר הדירה יתקבל בתשלום אחד, בכל סוף שנה. גובה דמי"ש בסוף השנה הראשונה הם: 50,000 ₪. בחוזה נקבע כי שכ"ד יצמח בשיעור של 3% בכל שנה.

מה הערך הנוכחי של התקבולים הצפויים מהשכרת הדירה, באם ידוע כי תקופת ההשכרה: 5 שנים, ושיעור התשואה (מחיר ההון) השנתי: 4%?

א. 250,000 ₪.

ב. 222,259 ₪.

ג. 228,985 ₪.

ד. 235,805 ₪.

ה. 1,250,000 ₪.

- 14** אופיר מאגדי (מרצה וותיק למימון, שוק ההון ושמאות מקרקעין) רכש דירה להשקעה בעיר יבנה, אותה הוא מתכנן להשכיר. השכירות לדירה בעלת מאפיינים דומים, עומדת על 4,500 ₪ לחודש. מרום, שמאי צעיר, טען כי אם אופיר ישקיע בשיפוץ הדירה סכום של 100,000 ₪, יוכל להשכירה במחיר של 5,000 ₪ ולכן כדאי לו לבצע את השיפוץ. ידוע כי הריבית השנתית הנקובה במשק היא 6% והשכירות היא לצמיתות, איזו מהטענות הבאות היא הנכונה ביותר?
- א. אם אופיר יבצע את השיפוץ, ערכו הנוכחי של הרווח הכלכלי מההחלטה לבצע את השיפוץ יעמוד על 100,000 ₪.
- ב. אם אופיר יבצע את השיפוץ, ערכו הנוכחי של הרווח הכלכלי מההחלטה לבצע את השיפוץ יעמוד על 100,000- ₪.
- ג. אם אופיר יבצע את השיפוץ, ערכו הנוכחי של הרווח הכלכלי מההחלטה לבצע את השיפוץ לא יהיה שונה לעומת אי ביצוע השיפוץ.
- ד. ההשקעה בשיפוץ אינה כדאית, שכן אין בסביבה ביקוש לשכירות ברמות מחיר אלו.
- ה. כל התשובות שגויות.

- 15** מרום מעוניין בהלוואה לתקופה של שנתיים וזאת כדי לבצע שיפוץ בדירה שרכש. להלן הריביות המוצעות לעמית בבנקים השונים:
- בנק ליעד-לעד: ריבית אפקטיבית שנתית בשיעור של 8.7%.
- בנק יהל-השקעות: ריבית חודשית בשיעור של 0.75%.
- בנק עמית-הפתית: הלוואה בריבית שנתית של 5% ובנוסף, תשלום ריבית מראש (עמלת הקצאת אשראי) בגובה 4% מסכום ההלוואה. ההלוואה תוחזר בתשלום אחד של קרן וריבית בתום השנה השנייה.
- באיזה בנק יבחר מרום?
- א. בנק ליעד-לעד.
- ב. בנק יהל-השקעות.
- ג. בנק עמית-הפתית.
- ד. לא ניתן לקבל החלטה ללא סכום ההלוואה.
- ה. כל ההצעות שקולות זו לזו.

- 16** שושי תחגוג את יום הולדתה בתאריך: 27.11.19. שושי צפויה לקבל את ההמחאות הבאות כמתנה ליום הולדתה:

ריבית שנתית	סכום	תאריך
3%	5,000	27.11.20
4%	6,000	27.11.21
5%	7,000	27.11.22

הריבית השנתית היא הריבית שתשרור במשך השנה המסתיימת בתאריך המצוין מולה.
 מהו הסכום החד פעמי שכדאי לשושי לקבל היום במקום הסכומים שלעיל?
 א. 18,000 ₪.
 ב. 16,679 ₪.
 ג. 16,448 ₪.
 ד. 16,578 ₪.
 ה. 17,578 ₪.

17 אופיר מעוניין להפקיד בכל סוף חודש סכום של 500 ₪ בתוכנית חיסכון למשך תקופה של 5 שנים.
 לאחר שנה מתחילת ההפקדות, החליטה שושי להפקיד לזכותו סכום חד פעמי בגובה 2,000 ₪ שיצטרף להפקדות החודשיות.
 הריבית האפקטיבית השנתית המתקבלת בתוכנית החיסכון: 4.9%.
 מהו הסכום הכולל שיעמוד לרשותו של אופיר בתום 5 השנים?
 א. 36,252.4 ₪.
 ב. 33,830 ₪.
 ג. 35,830 ₪.
 ד. 32,000 ₪.
 ה. כל התשובות שגויות.

18 אופיר מאגדי, בעל חברה לעבודות עפר, זכה בביצוע פרויקט: "מחיר למשתכן" בעיר יבנה. בעקבות הזכייה בפרויקט, אופיר החליט לבחון אפשרות להחליף את משאבת הבטון הישנה שברשותו, ולשם כך הוא בוחן 3 חלופות:
 חלופה א': המשך עבודה עם המשאבה הקיימת ובנוסף תשלום הוצאה חודשית בגין תחזוקה בגובה: 2,000 ₪ לתקופה של 5 שנים. בתום 5 שנים, תימכר המשאבה במחיר של: 10,000 ₪.
 חלופה ב': מכירת המשאבה הקיימת במחיר של: 15,000 ₪ ורכישת משאבה חדשה במחיר של: 35,000 ₪ ובנוסף דמי אחזקה סמליים לתקופה של 5 שנים בגובה: 200 ₪ לחודש. בתום 5 שנים, תימכר המשאבה במחיר של 12,000 ₪.
 חלופה ג': מכירת המשאבה הקיימת במחיר של 15,000 ₪ והשכרת משאבה תמורת תשלום חודשי קבוע למשך 5 שנים בגובה: 1,600 ₪.
 הריבית האפקטיבית השנתית במשק: 12.68%.
 מהי החלופה שיעדיף אופיר?
 א. חלופה א'.
 ב. חלופה ב'.
 ג. חלופה ג'.
 ד. יש 2 חלופות זהות.
 ה. כל החלופות זהות.

- 19** שושי רכשה דירה במחיר של 1,220,000 ₪ בתאריך : 1.2.18.
 לאחר שנה מיום הרכישה גילתה שושי כי ערך הדירה עלה ריאלית בשיעור 5%.
 שנה לאחר מכן (שנתיים מיום הרכישה) גילתה שושי כי מחיר הנכס ירד ריאלית
 בשיעור של 5%.
 מה מהבאים ניתן להסיק מנתונים אלה?
 א. שווי הנכס נותר ללא שינוי.
 ב. ערך הדירה עלה מהסיבה שעליית הערך קדמה לירידת הערך.
 ג. ערך הנכס מגלם ירידה ריאלית של 0.25%.
 ד. ערך הנכס מגלם עלייה ריאלית של 0.25%.
 ה. כל התשובות שגויות.

- 20** משרד חדש במרכז מסחרי (במרכז שכונת מגורים חדשה) בעיר יבנה, בשטח של :
 100 מ"ר, הוצע למכירה תמורת : 850,000 ₪.
 דמי השכירות החודשיים שניתן לקבל מהשכרת משרד מסוג זה מסתכמים
 ב- 40 ₪ למ"ר לחודש. ידוע כי שיעור התשואה החודשי (שיעור דמי השכירות)
 הינו 0.5% והנכסים הנמכרים בשוק מתומחרים על-פי שיעור היוון זה ובהנחת
 אינסוף.
 איזו תשובה היא הנכונה ביותר?
 א. המחיר שהוצע נמוך משמעותית משווי הנכס.
 ב. המחיר שהוצע משקף הנחה של : 50,000 ₪.
 ג. המחיר שהוצע משקף הנחה של : 100,000 ₪.
 ד. הרוכש ישלם מחיר המשקף באופן מלא את שווי השוק.
 ה. הרוכש ישלם מחיר הגבוה ב-50,000 ₪ משווי השוק של הנכס.

תשובות סופיות :

(1) ג'	(2) א'	(3) ה'	(4) ה'	(5) ה'
(6) ג'	(7) א'	(8) א'	(9) ב'	(10) ג'
(11) א'	(12) א'	(13) ד'	(14) ג'	(15) ג'
(16) ב'	(17) א'	(18) ב'	(19) ג'	(20) ה'

יסודות המימון ושימושם בשומת מקרקעין

פרק 20 - שאלון מספר 130618 יסודות המימון ושימושם בשומת מקרקעין

תוכן העניינים

1. שאלון מספר 130618 יסודות המימון ושימושם בשומת מקרקעין.....120

שאלון מספר 130618 יסודות המימון ושימושם בשומת מקרקעין:

שאלות:

1) אופיר פנה לשני בנקים שונים בבקשה לקבלת הלוואה בגובה 10,000 ₪ לתקופה של שנתיים. בנק "ליעד-לעד" הציע ריבית שנתית נקובה בשיעור 6%, המחושבת חודשית. ההלוואה תוחזר בהחזרים חודשיים שווים. בנק "עמית הפתית" הציע ריבית שבועית בשיעור 0.11%. ההלוואה תוחזר בהחזרים שבועיים שווים (הניחו כי בשנה 52 שבועות). ההחזרים משולמים בסוף תקופה. מהו ההחזר התקופתי שהחזיר אופיר בגין ההלוואה (בש"ח)?

- א. החזר שבועי בסך 443.2 ₪.
- ב. החזר שבועי בסך 101.8 ₪.
- ג. החזר שבועי בסך 545 ₪.
- ד. החזר שבועי בסך 796.8 ₪.
- ה. החזר שבועי בסך 898.6 ₪.

2) יהל, פקח הועדה המקומית לתכנון ובניה בעיר יבנה, גילה שפורמן מפעיל עסק מסחרי במבנה שייעודו חקלאי. פורמן הגיש בקשה לשימוש חורג וחויב בהיטל השבחה למפרע מ-1.1.2016. על פי תצ"אות שנמצאו במשרדי הועדה. היטל השבחה הסתכם ב-2,500 ₪ לכל חודש של שימוש חורג. הניחו שהוא נושא ריבית שנתית אפקטיבית בשיעור של 12.68% וכי ההיטל מחויב בתחילת כל חודש. כמה היטל, כולל ריבית ישלם פורמן בתאריך 1.1.2019, יום החיוב בפועל, בהנחה שהמדד נותר ללא שינוי בכל התקופה (בש"ח)?

- א. 107,692.1 ₪.
- ב. 90,000 ₪.
- ג. 308,517.3 ₪.
- ד. 108,769.1 ₪.
- ה. 327,522 ₪.

3) להלן שיעורי התשואה (שיעור ההיוון הכולל) הממוצעים אותם פרסם השמאי הממשלתי:

מחצית ראשונה 2018	מחצית שנייה 2017	סוג הנכס
3.8%	3.9%	משרדים
3.6%	3.8%	מסחריים
3.85%	3.95%	תעשייה ולוגיסטיקה

אופיר מאגדי השמאי, התבקש להעריך משרד בעיר יבנה, ובחר לפעול בגישת היוון ההכנסות (היוון ההכנסות לצמיתות). שיעור ההיוון הכולל נקבע עפ"י פרסום השמאי הממשלתי.

כיצד תשתנה הערכת שווי הנכס לאחר פרסום השמאי הממשלתי בנוגע להורדת שיעור ההיוון הכולל למשרדים?

הניחו כי ההכנסה השנתית לא השתנתה ונשארה קבועה.

א. עלייה של 2.63% בשווי הנכס.
 ב. לא ניתן לדעת מהו השינוי בשווי הנכס.
 ג. ירידה של 2.56% בשווי הנכס.
 ד. עלייה של 5.17% בשווי הנכס.
 ה. ירידה של 4.91% בשווי הנכס.

4) לפניכם 3 חלופות שכר:

- i. סכום ראשוני שיתקבל היום בגובה 5,000 ₪ וחווה תלת שנתי בו יתקבל שכר חודשי (בסוף כל חודש) בגובה 1,000 ₪.
 - ii. סכום ראשוני שיתקבל היום בגובה 1,000 ₪ וחווה תלת שנתי בו יתקבל שכר חודשי (בסוף כל חודש) בגובה 500 ₪.
 - iii. חווה תלת שנתי בו יתקבל סכום חודשי קבוע בגובה 1,200 ₪ בתחילת כל חודש.
- בהנחה שהריבית השנתית הנקובה הינה 3.6%, איזו הצעה היא הטובה ביותר?
- א. הצעה i.
 - ב. הצעה ii.
 - ג. הצעה iii.
 - ד. הצעות i ו-iii טובות באותה מידה.
 - ה. חסרים נתונים על מנת לקבוע מהי ההצעה הטובה ביותר.

5) אופיר ושושי מעוניינים לרכוש דירה להשקעה ברחוב הזמיר בעיר יבנה שפרטיה כדלקמן:

- מחיר הדירה עפ"י חוזה רכישה: 1,220,000.
- שכר טרחת עו"ד: 1% ממחיר הנכס.
- מס רכישה בשיעור 8% ממחיר הנכס.

הניחו שלא נדרשות הוצאות נוספות מעבר לאלו שצוינו לעיל. התעלמו ממע"מ. ברשות אופיר ושושי הון עצמי בגובה של 610,000 ₪. את יתרת הסכום בחרו הזוג ללוות מבנק "מרום", בריבית אפקטיבית שנתית קבועה בשיעור 6.16% לתקופה של 20 שנה.

מהו הסכום החודשי אותו יידרשו הזוג להחזיר לבנק מידי סוף חודש (בש"ח)?

- א. 4,433 ₪.
- ב. 8,740 ₪.
- ג. 4,370 ₪.
- ד. 4,457 ₪.
- ה. 5,160 ₪.

6) הניחו כי התאריך היום 1.2.18. אופיר, חובב מוזיקת JAZZ, החליט לטוס לפסטיבל ה-JAZZ שצפוי להיערך באילת ב-1.8.18. עלות הטיסה: 1,000 ₪, עלות המלון ל-6 ימים: 6,000 ₪, עלות מחיה: 2,000 ₪. הניחו כי מעבר להוצאות המוזכרות לעיל לא צפויות הוצאות נוספות וכל ההוצאות ישולמו ביום הטיסה (1.8.18). הניחו כי הריבית הנקובה השנתית היא בגובה 12%. מהו הסכום שאופיר נדרש להפקיד בכל תחילת חודש, החל מהיום (ביום הטיסה לא תהיה הפקדה לחשבון אלא רק משיכת הכספים שהצטברו), על מנת לממן את הטיול באילת (בש"ח)?

- א. 1,462 ₪.
- ב. 1,500 ₪.
- ג. 1,448 ₪.
- ד. 1,844 ₪.
- ה. 1,642 ₪.

7) אופיר חגג את יום הולדתו ה-40 והחליט לתכנן את עתידו הפיננסי. לשם כך החליט להפקיד בתכנית חסכון ייעודית סכום של 600 ₪ בכל סוף חודש, וזאת עד גיל 67 (סה"כ 324 חודשים). בהגיעו לגיל 67 יפסיק לבצע הפקדות, אך יתחיל לבצע משיכות בכל סוף חודש, בגובה X שקלים.

הערה: הכסף שנצבר ממשיך לצבור ריבית גם כשלא מתבצעות הפקדות. הניחו כי ריבית בשיעור 0.1% לחודש.

בהנחה כי אופיר יזכה להגיע לגיל 120, מהו הסכום החודשי (X) אותו יוכל אופיר למשוך בכל סוף חודש החל מגיל 67, גיל יציאתו לפנסיה, ועד לגיל 120 (סה"כ 636 חודשים) (בש"ח)?

א. 400 ₪.

ב. 874 ₪.

ג. 121.5 ₪.

ד. 487.7 ₪.

ה. 157.3 ₪.

8) ביום היוולדו של עמית הפתית, החליטו הוריו להפקיד עבורו סכום חודשי של 400 ₪ בתכנית חסכון בה ההפקדות מתבצעות מידי סוף חודש. בנוסף לכך, עם הגיעו לגיל 18 החליטו הוריו של עמית, לתת לו מתנה בשווי 2,000 ₪ אשר גם היא מופקדת בתכנית חסכון לתקופה של 3 שנים (עת הגיעו לגיל 21).

הניחו כי הריבית החודשית הינה 0.2% והיא אינה משתנה במהלך התקופה. בהגיעו לגיל 21 ועם שחרורו מצה"ל, החליט עמית לבחון רכישת משרד שעלותו 180,000 ₪.

מהו הסכום אותו יידרש עמית ללוות על מנת לממש את מטרתו ולרכוש את הנכס (בש"ח)?

א. 64,082 ₪.

ב. 120,048.2 ₪.

ג. 59,951.8 ₪.

ד. 115,918 ₪.

ה. 80,084 ₪.

9) שושי מאגדי, העוסקת בתחום השמאות מספר שנים, נתבקשה לבחון את מחירה הכולל של דירה עבור אופיר, המעוניין ברכישת דירה בעיר תל אביב.

מחיר הדירה: ₪ 2,500,000.

עלות תיווך: 2% ממחיר הדירה.

עלות שכ"ט עו"ד: 1% ממחיר הדירה.

עלות שכ"ט שמאי: ₪ 5,000.

להלן נתוני מס רכישה לשנת 2018, רכישת יחיד לתושב ישראל, המפורסמים ע"י רשות המיסים (הניחו לצורך השאלה כי זוהי דירתו היחידה של אופיר ושיעור מס רכישה יחושב עפ"י הטבלה המצורפת):

- על חלק השווי שעד 1,664,520 ₪: 0%.

- על חלק השווי שבין 1,664,520 ₪-1,975,335 ₪: 3.5%.

- על חלק השווי שבין 1,975,335 ₪-5,093,535 ₪: 5%.

- על חלק השווי שבין 5,093,535 ₪-16,978,450 ₪: 8%.

- על חלק השווי שמעל 16,978,450 ₪: 10%.

הערה: מס רכישה מתייחס אך ורק למחיר הרכישה של הנכס, ללא הוצאות נוספות, דוגמת תיווך/עו"ד/שמאי.

בתנאים אלו, מה הסכום הכולל אשר יידרש לאופיר עבור הדירה (בש"ח)? (לצורך פתרון השאלה הניחו שכל הסכומים והשיעורים כוללים מע"מ).

א. ₪ 2,575,000.

ב. ₪ 2,382,889.

ג. ₪ 2,500,000.

ד. ₪ 2,580,000.

ה. ₪ 2,617,111.

10) יהל מאגדי רכש דירה במחיר של 1,200,000 ₪.

הניחו כי זוהי דירתו הראשונה של יהל ולכן הוא זכאי לפטור ממס רכישה.

הוצאות תיווך ועורך דינו הסתכמו לסך של 20,000 ₪ (הניחו כי מחיר זה כולל מע"מ).

לאחר שנה ולאחר שקיבל בכל תחילת חודש תשלומי שכירות בגובה 4,000 ₪ החליט

יהל למכור את הנכס במחיר של 1,300,000 ₪ כעסקת נטו (כל הוצאות התיווך ועו"ד

שולמו ע"י הרוכש). שתי העסקאות פטורות ממס. הריבית השנתית הנקובה: 3%.

בתנאים אלו, מה התשואה השנתית הכוללת אשר השיג דורון בהתייחס לדירה?

(בתשובתכם התייחסו גם לשכירות שהתקבלה והניחו כי ההכנסות מהשכירות הופקו

בתכנית חסכון המניבה את הריבית בשוק).

א. 7.92%.

ב. 6.55%.

ג. 11.47%.

ד. 13.33%.

ה. 10.55%.

11 סבא אברי, יבואן מוצרי חשמל, חתם, לאחר משא ומתן ארוך, על עסקה בינו לבין חברת: "היזמים", ובה הוא נדרש לספק מוצרים באופן מידי בשווי 500,000 ₪. כעת, כל מה שנדרש הוא לדון בתנאי התשלום.

הועלו בפניו 3 הצעות:

- i. תשלום חודשי בגובה 50,000 ₪ בסוף כל חודש למשך 10 חודשים.
 - ii. תשלום של רבע מיליון ₪ באופן מיידי ו-25,000 ₪ בכל סוף חודש, למשך 10 חודשים נוספים.
 - iii. תשלום של 200,000 ₪ באופן מיידי ו-30,000 ₪ בכל סוף חודש, למשך 10 חודשים נוספים.
- באיזו הצעה כדאי לסבא אברי לבחור? הניחו ריבית נקובה שנתית בגובה 6%.
- א. הצעה i.
 - ב. הצעה ii.
 - ג. הצעה iii.
 - ד. רון יהיה אדיש בין הצעה i להצעה ii.
 - ה. רון יהיה אדיש בין הצעה ii להצעה iii.

12 מהו ערכם הנוכחי של תשלומי שכר דירה חודשיים בגובה 4,780 ₪ לתקופה של 4 שנים, המשולמים בסוף כל חודש, וצומחים בשיעור של 0.1% בין תשלום לתשלום (בש"ח)? הניחו ריבית חודשית בשיעור של 0.3%.

- א. 225,849 ₪.
- ב. 229,669 ₪.
- ג. 229,440 ₪.
- ד. 218,354 ₪.
- ה. 214,224 ₪.

13 לאחר חודשים ארוכים של ציפייה, נתבשרו דויד ודליה כי זכו בהגרלת "מחיר למשתכן". עלות הנכס: 1,600,000 ₪. על פי תנאי החוזה, נדרשים דויד ודליה לשלם חצי ממחיר הנכס באופן מיידי ואת היתרה (חצי ממחיר הנכס) בעוד 3 שנים. הניחו כי מחיר הנכס לא ישתנה וכי המועדים יתקיימו במלואם. בהנחה שלדויד ודליה הון עצמי בגובה 900,000 ₪ המיועד כולו למימוש הזכייה ומופקדים בתכנית חסכון המניבה ריבית חודשית בשיעור 0.2%, מהו גובה ההלוואה שידרשו לקחת מהבנק בעוד 3 שנים, עם קבלת המפתח (בש"ח)?

- א. 800,000 ₪.
- ב. 700,000 ₪.
- ג. 500,000 ₪.
- ד. 107,457 ₪.
- ה. 692,543 ₪.

14) בפני חקלאי עומדות האפשרויות הבאות לתזרים מזומנים אחרי הוצאות:

זמן הגידול	0	1	2	3	4
עגבניות	-200	60	60	60	
מלפפונים	-500	160	160	160	160
בננות	-800	500	500		
תפוחים	-700	310	310	310	

לכל פרויקט אורך חיים שונה (עגבניות 3 שנים, מלפפון 4 שנים, בננות שנתיים, תפוחים 3 שנים). עם סיום הפרויקט ניתן לחזור על ההשקעה אינסוף פעמים. בהנחה שהריבית להיוון הינה 3%, מה יבחר החקלאי לגדל?

- עגבניות.
- מלפפונים.
- בננות.
- תפוחים.
- החקלאי יהיה אדיש בין גידול בננות לבין גידול תפוחים.

15) בפני חברת "מאגדים" עומדות אפשרויות ההשקעה ותזרים המזומנים אחרי הוצאות הבאים:

זמן	0	1	2	3
A	-200	110	110	
B	-400	150	150	150
C	-600	200	560	
D	-800	0	900	

- נתון כי החברה אדישה בין ביצוע פרויקט D לבין אי ביצועו. בתנאים אלו, מה הפרויקט אותו תבחר החברה לבצע?
- פרויקט A.
 - פרויקט B.
 - פרויקט C.
 - החברה אדישה בין ביצוע פרויקט A לביצוע פרויקט C.
 - לא נתון מחיר הון של החברה ולכן לא ניתן לדעת איזה פרויקט היא תבחר.

16 לפניכם הצעות שהציעו בנקים ללקוח שהחליט לקחת הלוואה בגובה 120,000 ₪ לשיפוץ דירתו.

באיזו הצעה יבחר הלקוח?

- א. ריבית נקובה שנתית בשיעור של 9% מחושבת חודשית.
- ב. ריבית חודשית בגובה 0.9%.
- ג. ריבית שנתית בשיעור 9% המשולמת מראש (הריביות משולמות מיד עם קבלת הסכום).
- ד. ריבית אפקטיבית שנתית בשיעור של 9%.
- ה. ריבית חציונית בשיעור 4.5%.

17 לפני 5 שנים נחתם חוזה ל-15 שנה בין אופיר ושושי, בו נקבע כי שושי תשכור מאופיר חנות בשטח 30 מ"ר, במחיר של 70 ₪ ל-1 מ"ר לחודש, והתשלום יבוצע בו אחת לשנה, בתחילת כל שנה. בחוזה שנחתם בין הצדדים נקבע כי המחיר יהיה צמוד למדד המחירים לצרכן, שעלה מאז יום חתימת ההסכם ב-10%. נכסים דומים בסביבה מושכרים במחיר של 80 ₪ ל-1 מ"ר לחודש. הניחו ריבית שנתית בשיעור 8%.

מהו היתרון הכלכלי של שושי ביחס לנכסים דומים בסביבה (בש"ח)?

- א. 22,707 ₪.
- ב. 186,003 ₪.
- ג. 208,710 ₪.
- ד. 28,800 ₪.
- ה. 27,720 ₪.

18 לפניכם 3 טענות:

- i. בהנחה ששיעור התשואה הפנימי נמוך משיעור ההיוון (עלות ההון), יבחר האדם הסביר לבצע את הפרויקט מכיוון שערכו הנוכחי חיובי
- ii. ערך נוכחי נקי הינו תוצאה של היוון תזרים מזומנים עתידי לזמן 0, בניכוי ההשקעה.
- iii. קריטריון הערך הנקי (NPV) לא עדיף מקריטריון שיעור התשואה הפנימי (IRR) ואם קיימת סתירה בין הקריטריונים, יבחר האדם הסביר על פי קריטריון ה-IRR איזו/ אילו מהטענות הנ"ל נכונה/ות?

- א. רק טענה i.
- ב. רק טענה ii.
- ג. רק טענה iii.
- ד. רק טענות i ו-ii.
- ה. כל הטענות נכונות.

- 19** נתון שדה לגידול חיטה המניב 10 טון (10,000 ק"ג) חיטה מדי סוף שנה, לנצח (אינסוף). מחיר 1 קילו חיטה : 1 ₪.
 הניחו שהתפוקה צפויה לגדול ב-10% (כלומר התפוקה בכל שנה שווה לתפוקת השנה הקודמת כפול 1.1) ומנגד מחיר 1 קילו חיטה צפוי לקטון ב-10% (כלומר המחיר בכל שנה שווה למחיר בשנה הקודמת כפול 0.9), החל מהשנה הבאה ועד לאינסוף. כמו כן, הניחו ריבית שנתית בשיעור 4%.
 מהו הסכום החד פעמי שתהיה מוכן לקבל היום בתמורה לשדה (בש"ח)?
- א. 2,200,000
 ב. 2,475,000
 ג. 2,500,000
 ד. 2,828,571
 ה. 2,900,000

- 20** בנק "מאגדים" פרסם את תוכנית ההשקעה הבאה :
- התוכנית נמשכת שנה אחת בלבד, החל מחודש ינואר ועד חודש דצמבר, כולל.
 - בכל חודש אי זוגי מקבלים סכום של 300 ₪.
 - בכל חודש זוגי משלמים סכום של 200 ₪.
- בהנחה שהריבית הנקובה השנתית היא 6%, מהו הערך הנוכחי של התוכנית?
- א. הערך הנוכחי של תוכנית ההשקעה הינו 588 ₪.
 ב. הערך הנוכחי של תוכנית ההשקעה הינו הפסד בסך 1,159 ₪.
 ג. הערך הנוכחי של תוכנית ההשקעה הינו הפסד בסך 100 ₪.
 ד. הערך הנוכחי של תוכנית ההשקעה הינו רווח בסך 1,747 ₪.
 ה. לא ניתן לחשב.

תשובות סופיות:

ה (5)	ג (4)	א (3)	ד (2)	ב (1)
ה (10)	ה (9)	ג (8)	ד (7)	ג (6)
ג (15)	ג (14)	ה (13)	ד (12)	א (11)
א (20)	א (19)	ב (18)	ב (17)	ד (16)