

יסודות הכלכלה מיקרו



תוכן העניינים

1. הקדמה, עלות אלטרנטיבית וגבול אפשרויות הייצור - מתאים לתרגיל 1 (ללא ספר)
2. גבול אפשרויות הייצור, יתרון יחסי ומסחר בינלאומי - מתאים לתרגילים 2 ו 3 1
3. מסחר בינלאומי - המשך תרגיל 3 19
4. פונקציית הייצור, עלויות ייצור ומיקסום רווח - מתאים לתרגילים 4, 5 ו 6 (ללא ספר)
5. הביקוש - מתאים לתרגיל 7 (ללא ספר)
6. עקומת הביקוש וגמישות - מתאים לתרגיל 8 20
7. שיווי משקל בתחרות משוכללת - מתאים לתרגיל 9 22
8. שוק גורם הייצור - מתאים לתרגיל 01 (ללא ספר)
9. התערבות ממשלה במשק סגור - מתאים לתרגילים 11 ו 21 26
10. התערבות ממשלה במשק פתוח - מתאים לתרגילים 11 ו 21 39
11. מונופול (ללא ספר)
12. השפעות חיצוניות (ללא ספר)

יסודות הכלכלה מיקרו

פרק 1 - הקדמה, עלות אלטרנטיבית וגבול אפשרויות הייצור - מתאים לתרגיל 1

תוכן העניינים

1. מושגי יסוד (ללא ספר)

יסודות הכלכלה מיקרו

פרק 2 - גבול אפשרויות הייצור, יתרון יחסי ומסחר בינלאומי - מתאים
לתרגילים 2 ו 3

תוכן העניינים

1. כללי..... 1

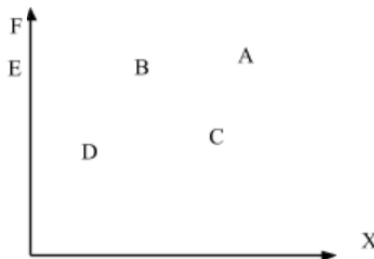
עקומת תמורה ומסחר בינלאומי:

שאלות:

- (1) להלן מספר טענות לגבי עקומת התמורה:
- א. עקומת התמורה תגדל (תצא החוצה) אם תקטן האבטלה במשק.
 - ב. עקומת התמורה תגדל (תצא החוצה) אם המשק יעבור ממצב לא יעיל למצב יעיל.
 - ג. עקומת התמורה תגדל (תצא החוצה) אם יחול שיפור טכנולוגי בייצור אחד המוצרים.
 - ד. עקומת התמורה תגדל (תצא החוצה) יקטן מספר העובדים.
 - ה. עקומת התמורה תגדל (תצא החוצה) אם המשק יקבל מענק מאחד המוצרים.

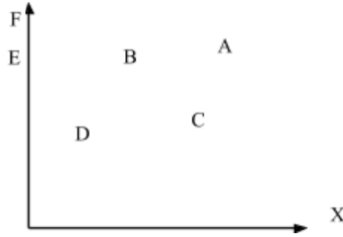
- (2) משק מייצר את מוצר X ומוצר Y באמצעות עובדים בלבד. להלן מספר טענות לגבי המשק כאשר הוא מייצר משני המוצרים ונמצא על עקומת התמורה:
- א. המשק מייצר באופן יעיל ולכן הגדלת הייצור של מוצר X מחייבת ויתור על מוצר Y.
 - ב. ההוצאה האלטרנטיבית השולית לייצור כל אחד מן המוצרים יכולה להיות חיובית או אפס.
 - ג. המשק מייצר באופן יעיל ולכן ניתן להגדיל את הייצור של מוצר אחד מבלי להקטין את הייצור של המוצר השני.
 - ד. על מנת להגדיל ייצור מוצר X אפשר להעביר עובדים מייצור מוצר X לייצור מוצר Y.

- (3) להלן תרשים של עקומת תמורה ומספר נקודות הנמצאות ביחס מסוים לעקומה:



- להלן מספר טענות לגבי התרשים:
- א. הייצור בנקודה E אינו יעיל יותר מהייצור בנקודה B.
 - ב. הייצור בנקודה A יעיל יותר מהייצור בנקודה B.
 - ג. הייצור בנקודה C יעיל יותר מהייצור בנקודה B.
 - ד. הייצור בנקודה D יעיל יותר מהייצור בנקודה B.

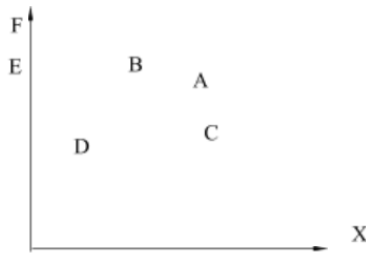
4) להלן תרשים של עקומת תמורה ומספר נקודות הנמצאות ביחס מסוים לעקומה:



להלן מספר טענות לגבי התרשים:

- ההוצאה האלטרנטיבית השולית לייצור מוצר X חיובית בנקודות D ו-E.
- ההוצאה האלטרנטיבית השולית לייצור מוצר X חיובית בנקודות B ו-C.
- במעבר מנקודה D לנקודה B, ניתן להגדיל את ייצור מוצר Y רק ע"י ויתור על מוצר X.
- במעבר מנקודה C לנקודה B, ההוצאה האלטרנטיבית השולית לייצור מוצר X גדלה.

5) להלן תרשים של עקומת תמורה ומספר נקודות הנמצאות ביחס מסוים לעקומה:



להלן מספר טענות לגבי התרשים:

- שיפור טכנולוגי בייצור מוצר X יכול לאפשר למשק לייצר בנקודה F.
- שיפור טכנולוגי בייצור מוצר Y לא יכול להביא לגידול בייצור שני המוצרים.
- אם, במצב המוצא, המשק מייצר בנקודה E, אזי שיפור טכנולוגי בייצור מוצר X לא יכול להביא לגידול בייצור שני המוצרים.
- מענק שהמשק מקבל ממוצר X יכול להביא את המשק לייצר בנקודה A.

6) להלן מספר טענות לגבי עקומת התמורה:

- גידול בכמות גורמי הייצור תגדיל בהכרח את עקומת התמורה.
- ייצור יעיל מחייב תעסוקה מלאה של כל גורמי הייצור.
- אם המשק נמצא על גבול אפשרויות הייצור הוא מייצר באופן יעיל.
- אם חלק מגורמי הייצור מובטלים, הרי שניתן להגדיל את התפוקה של מוצר אחד ללא ויתור על המוצר השני.

- (7) להלן מספר טענות לגבי עקומת התמורה של משק בעל גורם ייצור יחיד (עבודה). איזו מהטענות הבאות אינה נכונה:
- גידול בכמות גורמי הייצור תגדיל בהכרח את עקומת התמורה.
 - ייצור יעיל מחייב תעסוקה מלאה של כל גורמי הייצור.
 - אם המשק נמצא על גבול אפשרויות הייצור הוא מייצר באופן יעיל.
 - אם חלק מגורמי הייצור מובטלים, הרי שההוצאה האלטרנטיבית השולית לייצור יחידת מוצר נוספת היא חיובית.
- (8) משק מייצר את מוצר X ומוצר Y באמצעות עובדים בלבד. להלן מספר טענות:
- אם הכמויות המקסימליות שהמשק יכול לייצר משני המוצרים שוות, אזי ההוצאה האלטרנטיבית השולית לייצור מוצר X שווה 1.
 - אם המשק מייצר כמויות שוות משני המוצרים, אזי ההוצאה האלטרנטיבית השולית לייצור מוצר X שווה 1.
 - אם הכמויות המקסימליות שהמשק יכול לייצר משני המוצרים שוות, אזי ההוצאה האלטרנטיבית הממוצעת לייצור מוצר X שווה 1, אם המשק מייצר רק את מוצר X.
 - אם המשק מייצר כמויות שוות משני המוצרים, אזי ההוצאה האלטרנטיבית השולית לייצור מוצר X שווה 1, רק אם עקומת התמורה ליניארית.
- (9) במשק הישראלי מייצרים מוצרי מזון ומוצרי בידור. כעת החליטו להעביר חלק מן הפועלים מייצור מזון לייצור מוצרי בידור. התברר שתפוקת מוצרי הבידור גדלה בעוד תפוקת מוצרי המזון לא השתנתה. איזו מן הטענות הבאות המתייחסת למעבר הפועלים אינה נכונה:
- במצב המוצא, הייצור במשק לא היה יעיל.
 - התפוקה השולית של הפועלים שהועברו הייתה חיובית בשני המוצרים.
 - התפוקה השולית של הפועלים שהועברו הייתה חיובית בייצור מוצרי בידור ואפס בייצור מוצרי מזון.
 - ההוצאה האלטרנטיבית השולית לייצור מוצרי בידור הייתה אפס.
- (10) אם ידוע שהמשק מייצר תמיד כמויות חיוביות משני המוצרים ונמצא על עקומת התמורה, אזי:
- ההוצאה האלטרנטיבית השולית בייצור שני המוצרים גדולה מאפס.
 - אם בנוסף נתון שהמשק מייצר כמות שווה משני המוצרים, אזי ההוצאה האלטרנטיבית השולית שווה ל-1.
 - אם בנוסף נתון שחלק מגורמי הייצור אינם מועסקים, אזי המשק אינו מייצר ביעילות.
 - גידול בכמות של אחד מגורמי הייצור יביא בהכרח לגידול בכמות המיוצרת ממוצר Y.

- 11** משק מייצר את מוצר X ומוצר Y באמצעות עובדים בלבד. ידוע שהתפוקה השולית של העובדים קבועה בשני המוצרים. איזו מן הטענות הבאות אינה נכונה:
- א. עקומת התמורה של המשק ליניארית.
 - ב. ההוצאה האלטרנטיבית השולית לייצור מוצר X קבועה ושווה להוצאה האלטרנטיבית השולית לייצור מוצר Y.
 - ג. אם הכמויות המקסימליות שהמשק יכול לייצר משני המוצרים שוות, אזי ההוצאה האלטרנטיבית השולית לייצור מוצר X שווה 1.
 - ד. ההוצאה האלטרנטיבית השולית לייצור מוצר X שווה להוצאה האלטרנטיבית הממוצעת לייצור מוצר X.
- 12** להלן מספר טענות לגבי עקומת התמורה:
1. אם התפוקה השולית של גורם הייצור חיובית וקבועה בייצור שני המוצרים, עקומת התמורה תהיה ליניארית.
 2. רק אם התפוקה השולית של גורם הייצור חיובית ופוחתת בייצור שני המוצרים, עקומת התמורה תהיה קמורה (רגילה).
 3. אם קיימים שני גורמי ייצור שונים והתפוקה השולית של שני גורמי הייצור חיובית וקבועה בייצור שני המוצרים, עקומת התמורה תהיה קו שבור בעל שני קטעים.
 - א. רק טענה 1 נכונה.
 - ב. רק טענה 2 נכונה.
 - ג. רק טענה 3 נכונה.
 - ד. טענות 1 ו-2 נכונות.
- 13** העובדים במשק "A" מייצרים בתים ומזון בלבד. התפוקה השולית של העובדים בשני המוצרים פוחתת. בשנה הנוכחית ידוע שהמשק נמצא על עקומת התמורה ומייצר 100,000 בתים ו-5,000,000 יחידות מזון. מכאן ש:
- א. ההוצאה האלטרנטיבית הממוצעת לייצור בית היא 50 יחידות מזון.
 - ב. אם ידוע שבנקודת המוצא ויתור על בית אחד יגדיל את ייצור המזון ב-50 יחידות, הרי שהכמות המקסימלית של מזון שניתן לייצר היא 10,000,000 יחידות.
 - ג. אם ידוע שהכמות המקסימלית של מזון שניתן לייצר היא 10,000,000 יחידות, הרי שההוצאה האלטרנטיבית הממוצעת לייצור בית היא 50 יחידות מזון.
 - ד. כל התשובות האחרות אינן נכונות.

- 14** משק מייצר את מוצר X ומוצר Y באמצעות עובדים בלבד. להלן מספר טענות:
- שיפור טכנולוגי בייצור מוצר X גורם לתזוזה של עקומת התמורה וגם של עקומת הצריכה.
 - קבלת מענק גורמת לתזוזה של עקומת התמורה וגם של עקומת הצריכה.
 - קבלת מענק ממוצר Y גורמת להגדלת הצריכה ממוצר Y.
 - כל הטענות האחרות אינן נכונות.

15 להלן מספר טענות:

- עקומת התמורה בעלת שיפוע שלילי עקב חוק התפוקה השולית הפוחתת.
- שיפור טכנולוגי במוצר X, המלווה בצריכת אותה כמות X כמו קודם, לא ישנה את ההוצאה האלטרנטיבית הכוללת לייצור מוצר Y.
- שיפור טכנולוגי במוצר X, המלווה בצריכת אותה כמות Y כמו קודם, לא ישנה את ההוצאה האלטרנטיבית הכוללת לייצור מוצר X.
- קבלת מענק במוצר Y משנה את עקומת התמורה.

16 במשק מייצרים חולצות ונעליים. שיפור טכנולוגי ביצור חולצות:

- יגרום בהכרח להגברת ייצור החולצות.
- עשוי להביא להגדלת הייצור של נעליים ע"י הקטנת ייצור החולצות, לעומת מצב המוצא.
- יביא בהכרח לירידה במספר המועסקים בייצור חולצות.
- יביא בהכרח לירידה במספר המועסקים בייצור חולצות אם המשק נוהג לצרוך כמויות שוות משני המוצרים.

17 משק מייצר את מוצר X ומוצר Y באמצעות עובדים בלבד.

- במשק חל שיפור טכנולוגי בייצור מוצר X והרעה טכנולוגית בייצור מוצר Y. איזו מהטענות הבאות אינה נכונה:
- ייתכן שהמשק יוכל להגדיל את הכמות המיוצרת משני המוצרים לעומת מצב המוצא.
 - הכמויות המקסימליות שהמשק יכול לייצר משני המוצרים גדלו.
 - אם המשק מייצר אותן כמויות כמו קודם, אזי ההוצאה האלטרנטיבית השולית לייצור מוצר X קטנה.
 - אם המשק מייצר אותן כמויות כמו קודם, אזי ההוצאה האלטרנטיבית הכוללת לייצור מוצר X קטנה.

18 משק מייצר שני מוצרים X ו-Y. המשק נמצא במצב המוצא על עקומת תמורה קמורה (רגילה). במשק חל שיפור טכנולוגי בייצור מוצר X. איזו מהטענות הבאות אינה נכונה:

- א. אם המשק ממשיך לייצר אותה כמות ממוצר Y, אזי העלות האלטרנטיבית הכוללת לייצור מוצר X לא תשתנה.
- ב. אם המשק ממשיך לייצר אותה כמות ממוצר Y, אזי העלות האלטרנטיבית השולית לייצור מוצר X תקטן.
- ג. אם המשק ממשיך לייצר אותה כמות ממוצר X, אזי העלות האלטרנטיבית השולית לייצור מוצר X לא תשתנה.
- ד. אם המשק נוהג לצרוך תמיד כמויות שוות משני המוצרים, אזי המשק יגדיל את הכמות המיוצרת משני המוצרים, תוך כדי העברת עובדים מייצור מוצר X לייצור מוצר Y.
- ה. אם המשק ממשיך לייצר אותה כמות ממוצר Y, אזי העלות האלטרנטיבית הכוללת לייצור מוצר Y תגדל.

19 משק מייצר שני מוצרים X ו-Y. המשק נמצא במצב המוצא על עקומת תמורה ליניארית (ישרה). המשק קיבל מענק ממוצר Y. כתוצאה מכך:

- א. אם לאחר המענק, המשק צורך את אותה הכמות ממוצר X כמו קודם, הרי שבהכרח ההוצאה האלטרנטיבית השולית לייצור X קטנה.
- ב. אם לאחר המענק, המשק צורך עדיין את אותה הכמות ממוצר Y כמו קודם, הרי שלא ניתן לדעת מה קרה להוצאה האלטרנטיבית השולית לייצור X.
- ג. לאחר המענק, המשק יכול לייצר כמות מקסימאלית גדולה יותר משני המוצרים.
- ד. אם לאחר המענק, המשק צורך את אותה כמות ממוצר Y, הרי ההוצאה האלטרנטיבית הכוללת לייצור X גדלה.

20 משק מייצר שני מוצרים X ו-Y. המשק נמצא במצב המוצא על עקומת תמורה ליניארית (ישרה). במשק חל שיפור טכנולוגי בייצור מוצר X. לאחר השיפור המשק בחר להמשיך לצרוך אותה כמות ממוצר X. כתוצאה מכך:

- א. ההוצאה האלטרנטיבית השולית לייצור מוצר X לא השתנתה.
- ב. ההוצאה האלטרנטיבית השולית לייצור מוצר X קטנה.
- ג. המשק יכול כעת לייצר כמות מקסימאלית גדולה יותר משני המוצרים.
- ד. הכמות הנצרכת ממוצר Y לא משתנה.

- (21)** משק מייצר שני מוצרים X ו-Y. המשק נמצא במצב המוצא על עקומת תמורה ליניארית (ישרה). במשק חל שיפור טכנולוגי בייצור מוצר Y. כתוצאה מכך:
- אם לאחר השיפור הטכנולוגי, המשק נמצא בנקודת ייצור בה מייצרים את אותה הכמות ממוצר Y כמו קודם, הרי שלא ניתן לדעת מה קרה להוצאה האלטרנטיבית השולית לייצור X.
 - אם לאחר השיפור הטכנולוגי, המשק נמצא בנקודת ייצור בה מייצרים את אותה הכמות ממוצר X כמו קודם, הרי שבהכרח ההוצאה האלטרנטיבית השולית לייצור X קטנה.
 - לאחר השיפור הטכנולוגי, המשק יכול לייצר כמות מקסימלית גדולה יותר משני המוצרים.
 - אם לאחר השיפור הטכנולוגי, המשק צורך פחות ממוצר Y, הרי ההוצאה האלטרנטיבית השולית לייצור X גדלה.

- (22)** משק מייצר שני מוצרים X ו-Y. המשק נמצא במצב המוצא על עקומת תמורה קמורה (רגילה). המשק קיבל מענק ממוצר Y. כתוצאה מכך:
- אם לאחר המענק, המשק צורך את אותה הכמות ממוצר X כמו קודם, הרי שבהכרח ההוצאה האלטרנטיבית השולית לייצור X קטנה.
 - אם לאחר המענק, המשק צורך עדיין את אותה הכמות ממוצר Y כמו קודם, הרי שלא ניתן לדעת מה קרה להוצאה האלטרנטיבית השולית לייצור X.
 - לאחר המענק, המשק יכול לייצר כמות מקסימלית גדולה יותר משני המוצרים.
 - אם לאחר המענק, המשק צורך פחות ממוצר Y, הרי ההוצאה האלטרנטיבית השולית לייצור X גדלה.

- (23)** משק מייצר שני מוצרים X ו-Y. המשק נמצא במצב המוצא על עקומת תמורה קמורה (רגילה). במשק חל שיפור טכנולוגי בייצור מוצר X. לאחר השיפור המשק בחר להמשיך לצרוך אותה כמות ממוצר X. כתוצאה מכך:
- ההוצאה האלטרנטיבית השולית לייצור מוצר X לא השתנתה.
 - ההוצאה האלטרנטיבית השולית לייצור מוצר X קטנה.
 - המשק יכול כעת לייצר כמות מקסימלית גדולה יותר משני המוצרים.
 - הכמות הנצרכת ממוצר Y לא משתנה.

- (24)** משק מייצר שני מוצרים X ו-Y. המשק נמצא במצב המוצא על עקומת תמורה קמורה (רגילה). במשק חל שיפור טכנולוגי בייצור מוצר Y. כתוצאה מכך:
- אם לאחר השיפור הטכנולוגי, המשק נמצא בנקודת ייצור בה מייצרים את אותה הכמות ממוצר Y כמו קודם, הרי שלא ניתן לדעת מה קרה להוצאה האלטרנטיבית השולית לייצור X.
 - אם לאחר השיפור הטכנולוגי, המשק נמצא בנקודת ייצור בה מייצרים את אותה הכמות ממוצר X כמו קודם, הרי שבהכרח ההוצאה האלטרנטיבית השולית לייצור X קטנה.
 - לאחר השיפור הטכנולוגי, המשק יכול לייצר כמות מקסימלית גדולה יותר משני המוצרים.
 - אם לאחר השיפור הטכנולוגי, המשק צורך פחות ממוצר Y, הרי ההוצאה האלטרנטיבית השולית לייצור X גדלה.

- (25)** משק מייצר שני מוצרים X ו-Y. המשק נמצא במצב המוצא על עקומת התמורה קמורה (רגילה). המשק קיבל מענק ממוצר X. כתוצאה מכך:
- אם לאחר המענק, המשק צורך את אותה הכמות ממוצר X כמו קודם, הרי שבהכרח ההוצאה האלטרנטיבית השולית לייצור X קטנה.
 - אם לאחר המענק, המשק צורך עדיין את אותה הכמות ממוצר Y כמו קודם, הרי שלא ניתן לדעת מה קרה להוצאה האלטרנטיבית לייצור X.
 - לאחר המענק, המשק יכול לייצר כמות מקסימלית גדולה יותר משני המוצרים.
 - אם לאחר המענק, המשק צורך פחות ממוצר X, הרי ההוצאה האלטרנטיבית לייצור X גדלה.

- (26)** למשק יש חמישה מטעים שונים בהם ניתן לגדל מנגו או שזיף:

מטע	מנגו (טונות)	שזיף (טונות)
A	5	25
B	10	20
C	30	10
D	60	30
E	40	60

אם המשק מגדל 100 טון מנגו ביעילות, אזי:

- ההוצאה האלטרנטיבית השולית לגידול מנגו היא $\frac{1}{2}$ שזיף.
- ההוצאה האלטרנטיבית השולית לגידול שזיף היא $\frac{3}{2}$ מנגו.
- הכמות המיוצרת של שזיף היא 90 טון.
- ההוצאה האלטרנטיבית הממוצעת לגידול טון מנגו היא $\frac{3}{4}$ טון שזיף.

- (27) משק מייצר שני מוצרים X ו-Y. במשק יש 100 עובדים ו-100 עובדות. כל עובד יכול לייצר 5 יחידות ממוצר X או 5 יחידות ממוצר Y. כל עובדת יכולה לייצר 2 יחידות ממוצר X או 6 יחידות ממוצר Y. המשק מעוניין לייצר כמויות שוות משני המוצרים. מכאן ש:
- ההוצאה האלטרנטיבית השולית לייצור יחידת X היא 1 יחידת Y.
 - בייצור מוצר Y יעסקו גם עובדים וגם עובדות.
 - אם יחול שיפור טכנולוגי של 20% ביכולת של העובדים בלבד, המשק ייצר 600 יחידות מכל מוצר.
 - ההוצאה האלטרנטיבית הכוללת לייצור מוצר X קטנה מ-500 יחידות Y.

- (28) משק מייצר שני מוצרים X ו-Y. במשק יש מכונות, עובדים ועובדות. כל מכונה יכולה לייצר 10 יחידות ממוצר X או 30 יחידות ממוצר Y. כל עובד יכול לייצר 5 יחידות ממוצר X או 5 יחידות ממוצר Y. כל עובדת יכולה לייצר 2 יחידות ממוצר X או 6 יחידות ממוצר Y. מכאן ש:
- עקומת התמורה ליניארית.
 - למכונות יש יתרון יחסי על פני העובדות בייצור מוצר Y.
 - עקומת התמורה אינה יכולה להיראות כקו שבור בעל שלושה קטעים.
 - היחידות הראשונות של מוצר X מיוצרות בהכרח ע"י מכונה.

- (29) ידוע שבמשק, המייצר באופן יעיל שני מוצרים X ו-Y בלבד, יש שלושה גורמי ייצור A, B, C. אם ידוע שלגורם ייצור A יש יתרון יחסי בייצור מוצר X על פני גורם ייצור B ויתרון יחסי על פני גורם ייצור C בייצור מוצר Y, אזי:
- רצוי שכל גורם ייצור ייצר משני המוצרים.
 - כל גורם ייצור חייב לעסוק בייצור המוצר בו יש לו יתרון יחסי.
 - אם גורם ייצור C מייצר ממוצר Y, אזי גורמי ייצור A ו-B מייצרים רק את מוצר Y.
 - אם גורם ייצור B מייצר ממוצר Y, אזי גורמי ייצור A ו-C מייצרים רק את מוצר Y.

- (30) להלן מספר טענות:
- אם לגורם ייצור A יש יתרון מוחלט על פני גורם ייצור B הן בייצור מוצר X והן בייצור מוצר Y, אזי יש לו גם יתרון יחסי בשני המוצרים.
 - אם לגורם ייצור A יש יתרון מוחלט על פני גורם ייצור B בייצור מוצר X, לא ייתכן שלגורם ייצור B יש יתרון יחסי בייצור מוצר X.
 - אם לגורם ייצור A יש יתרון יחסי על פני גורם ייצור B בייצור מוצר X, אזי לא ייתכן שיהיה לו יתרון יחסי גם בייצור מוצר Y.
 - אם לגורם ייצור A יש יתרון יחסי על פני גורם ייצור B בייצור מוצר Y, אזי הוא ייצר רק את מוצר Y.

31 משק מייצר שני מוצרים X ו-Y. במשק יש מכונות, עובדים וקרקע. כל מכונה יכולה לייצר 2 יחידות ממוצר X או 3 יחידות ממוצר Y. כל עובד יכול לייצר 2 יחידות ממוצר X או 4 יחידות ממוצר Y. בכל דונם קרקע ניתן לייצר 2 יחידות ממוצר X או 6 יחידות ממוצר Y. מכאן ש:

- עקומת התמורה היא קו ליניארי.
- ייתכן שהמכונות תייצרנה כמות חיובית משני המוצרים והעובדים ייצרו את מוצר X בלבד.
- ייתכן שהמכונות תייצרנה כמות חיובית משני המוצרים והעובדים ייצרו את מוצר Y בלבד.
- אם המשק מייצר רק את מוצר X, אזי ההוצאה האלטרנטיבית השולית לייצור X היא $\frac{2}{3}$ יחידות Y.

32 בענף הבניין בונים בניינים ובתים פרטיים. לרשות הענף עומדים 1,000 עובדים מקומיים ו-3,000 עובדים זרים. לבניית בניין דרושים 10 עובדים מקומיים ו-20 עובדים זרים, ולבניית בית פרטי דרושים 5 עובדים מקומיים ו-10 עובדים זרים.

- עקומת התמורה היא עקומת מגבלות ולכן היא תיראה כקו שבור בעל שני קטעים.
- ייבוא של עובדים זרים נוספים יגדיל את גבול אפשרויות הייצור של ענף הבנייה.
- הכשרת עובדים מקומיים נוספים תגדיל את גבול אפשרויות הייצור של ענף הבנייה.
- ייתכן מצב שבו עקומת התמורה תיראה כקו שבור בעל שני קטעים.

33 משק מייצר שני מוצרים X ו-Y בעזרת 100 עובדים ו-200 עובדות. כל עובד יכול לייצר 10 יחידות ממוצר X או 5 יחידות ממוצר Y. כל עובדת יכולה לייצר 2 יחידות ממוצר X או 6 יחידות ממוצר Y. ידוע שהמשק צורך תמיד 900 יחידות ממוצר X. מכאן ש:

- אם המשק יקבל מענק של 100 יחידות X, תשתנה ההוצאה האלטרנטיבית השולית לייצור מוצר X.
- אם יעזבו 20 עובדים את המשק, לא תשתנה ההוצאה האלטרנטיבית השולית לייצור מוצר X.
- אם העובדות תעבורנה הכשרה שתגדיל את יכולתן לייצר את מוצר X פי 5, תשתנה ההוצאה האלטרנטיבית השולית לייצור מוצר X.
- אם יתווספו 20 עובדים למשק, לא תשתנה ההוצאה האלטרנטיבית השולית לייצור מוצר X.

- 34** מדינות א' ו-ב' מייצרות את מוצרים X ו-Y בלבד, ומקיימות מסחר ביניהן. במדינה א' דרושים 2 עובדים לייצור מוצר X ו-5 עובדים לייצור מוצר Y. במדינה ב' דרושים 2 עובדים לייצור מוצר X ו-2 עובדים לייצור מוצר Y. לכל מדינה יש 100 עובדים. בשנה הנוכחית כל מדינה צורכת 25 יחידות X. א. מדינה א' מוכרת בהכרח את מוצר Y וקונה את מוצר X. ב. אם שני המשקים היו מתחברים הרי שהנקודה ($X=50, Y=35$) נמצאת על עקומת התמורה. ג. שיפור של 150% בייצור מוצר Y במדינה א' יהפוך את המסחר בין המדינות לחסר תועלת. ד. אם יעזבו את מדינה א' 50 עובדים שייצרו את מוצר X, ישתנה היתרון היחסי בין המדינות.

- 35** במשק A עקומת תמורה רגילה. המשק פתוח וסוחר עם העולם. ידוע שהמחיר העולמי של מוצר X התייקר. מכאן ש:
- אין השפעה על הכמות המיוצרת של מוצר X במדינה A.
 - ההוצאה האלטרנטיבית השולית לייצור מוצר X תקטן.
 - הכמות המיוצרת ממוצר X תקטן.
 - ההוצאה האלטרנטיבית השולית לייצור מוצר X תגדל.

- 36** משק מייצר שני מוצרים X ו-Y. לרשות המשק עומדים 200 מכונות ו-300 עובדים. כל מכונה יכולה לייצר 2 יחידות ממוצר X או 3 יחידות ממוצר Y. כל עובד יכול לייצר 2 יחידות ממוצר X או 4 יחידות ממוצר Y. המשק מייצר באופן יעיל כמות של 1500 יחידות Y. להלן מספר טענות:
- המשק מייצר 200 יחידות ממוצר X.
 - בייצור מוצר X מועסקים גם מכונות וגם עובדים.
 - בייצור מוצר Y מועסקות מכונות בלבד.
 - כל התשובות האחרות אינן נכונות.

- 37** משק מייצר שני מוצרים X ו-Y. לרשות המשק עומדים 240 פועלים ו-120 פועלות. לייצור מוצר X דרושים 4 פועלים ופועלת אחת. לייצור מוצר Y דרושים 2 פועלים ו-2 פועלות. המשק נוהג לצרוך 50 יחידות ממוצר X ומייצר תמיד ביעילות. להלן מספר טענות לגבי מצב המשק:
- המשק מייצר בנקודת תעסוקה מלאה.
 - המשק מייצר 30 יחידות ממוצר Y.
 - יש 30 פועלות מובטלות.
 - יש 10 פועלים מובטלים.

- 38** משק מייצר שני מוצרים X ו-Y. לרשות המשק עומדים 240 פועלים ו-120 פועלות. לייצור מוצר X דרושים 4 פועלים ופועלת אחת. לייצור מוצר Y דרושים 2 פועלים ו-2 פועלות. איזו מן הטענות הבאות לגבי מצב המשק נכונה:
- המשק מייצר תמיד בתעסוקה מלאה (אין אבטלה מבנית).
 - ההוצאה האלטרנטיבית השולית לייצור מוצר X תלויה בכמות המיוצרת ממוצר X.
 - גידול במספר הפועלים בלבד או גידול במספר הפועלות בלבד לא ישנה את עקומת התמורה.
 - ההוצאה האלטרנטיבית השולית לייצור יחידת X היא קבועה ושווה ל-2 יחידות Y.

- 39** בהמשך לנתוני השאלה הקודמת. למשק נוספו עוד 120 פועלות. הניחו כעת כי לא ידוע כמה המשק נוהג לייצר מכל מוצר. להלן מספר טענות לגבי מצב המשק:
- בהכרח תיווצר אבטלה מבנית של פועלות.
 - אם המשק מייצר כמות חיובית ממוצר X, הרי שההוצאה אלטרנטיבית השולית לייצור מוצר X שווה בהכרח ל-2 יחידות Y.
 - אם תתווספה עוד פועלות למשק, זה יגרום להתרחבות של גבול אפשרויות הייצור.
 - ההוצאה האלטרנטיבית השולית יכולה להשתנות אם נשנה את הכמות המיוצרת ממוצר X.

- 40** פועל בענף הטקסטיל בישראל מייצר ביום עבודה 2 חולצות או 4 זוגות מכנסיים. פועל בענף הטקסטיל בהודו מייצר ביום עבודה 2 חולצות או 2 זוגות מכנסיים. ידוע שמספר פועלי הטקסטיל בהודו גבוה פי 20 מאשר מספרם בישראל. להלן מספר טענות לגבי אפשרויות הסחר בין ישראל והודו:
- להודים אין צורך לקנות חולצות ומכנסיים מישראל מאחר שיש להם הרבה יותר פועלים.
 - לאף אחת משתי המדינות אין יתרון יחסי בייצור חולצות.
 - לישראל כדאי לייצא זוגות מכנסיים להודו במחיר הנע בין חולצה אחת ל-0.5 חולצה.
 - להודו כדאי לייצא חולצות לישראל במחיר הנע בין זוג מכנסיים אחד ל-0.5 זוג מכנסיים.

- 41** פועל במשק א' מייצר ביום עבודה 10 יחידות ממוצר X או 10 יחידות ממוצר Y. פועל במשק ב' מייצר ביום עבודה 20 יחידות ממוצר X או 100 יחידות ממוצר Y. להלן מספר טענות לגבי אפשרויות הסחר בין משק א' למשק ב':
- למשק ב' יש יתרון מוחלט ויתרון יחסי בשני המוצרים.
 - אם ידוע שטעמי המשקים זהים, אין כדאיות למסחר בין השווקים.
 - במידה ויסחרו ביניהם, ימכור משק א' את מוצר X במחיר הנע בין יחידה אחת ממוצר Y ל-5 יחידות ממוצר Y.
 - במידה ויסחרו ביניהם, ימכור משק ב' את מוצר Y במחיר הנע בין יחידה אחת ממוצר X ל-5 יחידות ממוצר X.
 - טענות ג' וד' נכונות.

- 42** במשק א' דרושים שני ימי עבודה לייצור יחידה אחת של מוצר X, ושלושה ימי עבודה לייצור יחידה אחת של מוצר Y. במשק ב' דרושים 10 ימי עבודה לייצור יחידה אחת של מוצר X, וחמישה ימי עבודה לייצור יחידה אחת של מוצר Y. להלן מספר טענות לגבי אפשרויות הסחר בין משק א' למשק ב':
- למשק ב' יש יתרון מוחלט ויתרון יחסי בשני המוצרים.
 - אם ידוע שטעמי המשקים זהים, אין כדאיות למסחר בין השווקים.
 - במידה ויסחרו ביניהם, ימכור משק א' את מוצר X במחיר הנע בין $\frac{2}{3}$ יחידות ממוצר Y ל-2 יחידות ממוצר Y.
 - במידה ויסחרו ביניהם, ימכור משק ב' את מוצר Y במחיר הנע בין אחת וחצי יחידות ממוצר X ל-2 יחידות ממוצר X.
 - טענות ג' וד' נכונות.

- 43** משק בעל עקומת תמורה רגילה מייצר בנקודה שבה ההוצאה האלטרנטיבית השולית שווה אחת. בנקודה זו המשק צורך כמויות חיוביות משני המוצרים, אשר ממקסמות את תועלתו. כעת המשק נפתח למסחר בינלאומי. ידוע שמחיר מוצר X בעולם הוא 2 ₪. מכאן ש:
- אם מחיר מוצר Y הוא 4 ₪, המשק יגדיל את הכמות המיוצרת ממוצר Y, ייצא את מוצר Y וייבא את מוצר X.
 - אם מחיר מוצר Y הוא 2 ₪, המשק יגדיל את הכמות המיוצרת ממוצר Y, ייצא את מוצר X וייבא את מוצר Y.
 - אם מחיר מוצר Y הוא 4 ₪, המשק יפסיק לייצר את מוצר X וייצר את מוצר Y בלבד, כי מוצר Y שווה כפליים.
 - אם מחיר מוצר Y הוא 2 ₪, ייתכן שפתיחת המשק למסחר בינלאומי ישפר את מצב המשק.

44 לרשות המשק עומדים שלושה גורמי ייצור: פועלים, מכונות ודונמים של קרקע. כל פועל יכול לייצר 2 יחידות X או 4 יחידות Y. כל מכונה יכולה לייצר 1 יחידות X או 1 יחידות Y. כל דונם קרקע יכול לייצר 6 יחידות X או 24 יחידות Y. מחירו העולמי של מוצר X הוא \$15 ומחירו העולמי של מוצר Y הוא \$10. על מנת להיות על גבול אפשרויות הצריכה שלו, המשק צריך להקצות את גורמי הייצור באופן הבא:

- כל גורמי הייצור צריכים לייצר את מוצר Y, כי הוא זול יותר.
- כל גורמי הייצור צריכים לייצר את מוצר X, כי הוא יקר יותר.
- כל הפועלים והקרקע ייצרו את מוצר Y וכל המכונות תייצרנה את מוצר X.
- חלק מהפועלים והקרקע ייצרו את מוצר Y והשאר ייצרו את מוצר X, וכן כל המכונות תייצרנה את מוצר X.

45 משק מייצר שני מוצרים X ו-Y. לרשות המשק עומדים 240 פועלים ו-120 מכונות. כל פועל יכול לייצר 2 יחידות X או 4 יחידות Y. כל מכונה יכולה לייצר 4 יחידות X בלבד. לכן:

- ייתכן שהמשק ייצר באופן יעיל 400 יחידות ממוצר X.
- שיפור טכנולוגי במכונות, יגדיל את ייצור מוצר X בהכרח.
- ההוצאה האלטרנטיבית השולית לייצור מוצר X משתנה לאורך עקומת התמורה.
- ייתכן שהמשק ייצר באופן יעיל רק את מוצר Y.

46 משק מייצר שני מוצרים X ו-Y. לרשות המשק עומדים 200 פועלים ו-100 פועלות. לייצור מוצר X דרושים 2 פועלים או פועלת אחת. לייצור מוצר Y דרושים 2 פועלים ו-2 פועלות. מכאן ש:

- ייתכן שהמשק ייצר באופן יעיל 40 יחידות ממוצר X.
- אם הממשק מייצר 50 יחידות Y, אז גידול במספר הפועלים יוכל להביא לגידול בייצור מוצר Y.
- כאשר המשק מייצר 100 יחידות ממוצר X, ההוצאה האלטרנטיבית השולית לייצור מוצר X היא 3 יחידות Y.
- כאשר המשק מייצר 50 יחידות ממוצר X, ההוצאה האלטרנטיבית השולית לייצור מוצר X היא חיובית.
- אם המשק מייצר 50 יחידות Y, אז גידול במספר הפועלות יוכל להביא לגידול בייצור מוצר Y.

- 47** משק מייצר שני מוצרים X ו-Y בעזרת 100 עובדים ו-200 עובדות. כל עובד יכול לייצר 10 יחידות ממוצר X בלבד. כל עובדת יכולה לייצר 5 יחידות ממוצר Y בלבד. המשק מייצר תמיד ביעילות.
- המשק מייצר בהכרח 1000 יחידות מכל מוצר.
 - ההוצאה האלטרנטיבית השולית לייצור מוצר X הוא 2 יחידות Y.
 - ייתכן שחלק מהעובדות מובטלות.
 - ייתכן שחלק מן העובדים מובטלים.
- 48** משק בעל עקומת תמורה ליניארית מייצר בנקודה שבה ההוצאה האלטרנטיבית השולית שווה אחת. בנקודה זו המשק צורך כמויות חיוביות משני המוצרים, אשר ממקסמות את תועלתו. כעת המשק נפתח למסחר בינלאומי. ידוע שמחיר מוצר X בעולם הוא 2 ₪. מכאן ש:
- אם מחיר מוצר Y הוא 4 ₪, המשק יגדיל את הכמות המיוצרת ממוצר Y ויקטין את הכמות המיוצרת ממוצר X, ייצא את מוצר Y וייבא את מוצר X.
 - אם מחיר מוצר Y הוא 2 ₪, המשק יגדיל את הכמות המיוצרת ממוצר Y, ייצא את מוצר X וייבא את מוצר Y.
 - אם מחיר מוצר Y הוא 4 ₪, המשק יפסיק לייצר את מוצר X וייצר את מוצר Y בלבד, כי מוצר Y שווה כפליים.
 - בכל מקרה, עקומת אפשרויות הצריכה של המשק תגדל כתוצאה מהמסחר הבינלאומי.
- 49** נתונים שני משקים א' ו-ב', אשר אינם סוחרים ביניהם והעלות האלטרנטיבית השולית לייצור מוצר X קבועה ושונה בשניהם. משק א' מייצר 100 יחידות ממוצר X ו-50 יחידות ממוצר Y. משק ב' מייצר 200 יחידות ממוצר X ו-40 יחידות ממוצר Y.
- ההוצאה האלטרנטיבית השולית לייצור X במשק א' היא $\frac{1}{2}$ Y ובמשק ב' היא חמישית Y.
 - אם המשקים יתאחדו, אזי הנקודה שבה מייצרים 300 יחידות X ו-90 יחידות Y אינה נמצאת על עקומת התמורה.
 - למשק ב' יש יתרון יחסי בייצור מוצר X.
 - כל הטענות האחרות אינן נכונות.

- (50)** במשק א' יש 100 פועלים זהים שיכולים לייצר 2 עטים או 2 עפרונות. במשק ב' יש 200 פועלים שיכולים ליצר 1 עט או 4 עפרונות. שני המשקים מקיימים מסחר ביניהם תוך התמחות מלאה של שני המשקים. ידוע שמשק א' צורך 50 עטים. אם ידוע שהמסחר בין המשקים הוא בערך של עט אחד עבור שני עפרונות, אזי משק ב' יכול לצרוך לכל היותר:
- 250 עפרונות.
 - 500 עפרונות.
 - 300 עפרונות.
 - 325 עפרונות.

- (51)** נתונים שני משקים א' ו-ב', אשר אינם סוחרים ביניהם והעלות האלטרנטיבית השולית לייצור מוצר X קבועה בשניהם. משק א' מייצר 100 יחידות ממוצר X ו-50 יחידות ממוצר Y. משק ב' מייצר 200 יחידות ממוצר X ו-40 יחידות ממוצר Y. כעת המשקים החלו לסחור ביניהם וידוע שהמשקים עברו להתמחות מלאה, כאשר משק א' מייצר 150 יחידות X בלבד, ומשק ב' מייצר 440 יחידות Y בלבד. כמו כן נתון שלאחר המסחר, משק א' צורך אותה כמות ממוצר X כמו קודם, אך חל גידול של 25 יחידות ממוצר Y לעומת מצב המוצא. מכאן ש:
- ההוצאה האלטרנטיבית השולית לייצור X במשק א' היא 1 יחידת Y.
 - ההוצאה האלטרנטיבית השולית לייצור X במשק ב' היא 1 יחידת Y.
 - המחיר שבו סוחרים שני המשקים הוא 1 יחידת X לכל 1 יחידת Y.
 - לאחר המסחר, משק ב' צורך 450 יחידות ממוצר Y ו-50 יחידות ממוצר X.

- (52)** במשק א' יש 200 פועלים זהים שיכולים לייצר 3 יחידות מזון או 6 לבוש. במשק ב' יש 100 פועלים שיכולים ליצר 10 יחידת מזון או 2 יחידות לבוש. שני המשקים מקיימים מסחר ביניהם תוך התמחות מלאה של שני המשקים. ידוע שכל משק צריך בדיוק 400 יחידות מזון בשביל להתקיים ואת יתרת הכנסתו הוא מוציא על יחידות לבוש. אם ידוע שהמסחר בין המשקים הוא בערך של 1 יחידות מזון עבור 1 יחידת מזון, אזי:
- משק א' יצרוך 800 יחידות לבוש ומשק ב' יצרוך 440 יחידות לבוש.
 - משק א' יצרוך 400 יחידות לבוש ומשק ב' יצרוך 400 יחידות לבוש.
 - משק א' יצרוך 400 יחידות לבוש ומשק ב' יצרוך 440 יחידות לבוש.
 - לא ניתן לומר בוודאות כמה יחידות לבוש יצרוך כל משק.

53) להלן טבלת המתארת את מצבם של שני משקים לפני ואחרי סחר ביניהם. בשני המשקים עקומת התמורה ליניארית.

אחרי הסחר		לפני הסחר		
נעליים	חולצות	נעליים	חולצות	
70	20	80	10	משק א
30	220	40	120	משק ב

ידוע שלמשק א' יש יתרון יחסי בייצור נעליים, ולאחר תחילת המסחר כל משק מייצר את המוצר שבו הוא מתמחה. להלן מספר טענות:

- ההוצאה האלטרנטיבית השולית לייצור חולצות במשק א' היא 1.5 זוגות נעליים.
- ההוצאה האלטרנטיבית השולית לייצור חולצות במשק ב' היא 3 זוגות נעליים.
- משק ב' קונה חולצות ומשק א' קונה נעליים.
- המסחר בין המשקים הוא במחיר של 1.5 נעליים לכל חולצה.

- 54) למשק יש 100 מכונות. כל מכונה יכולה לעבוד 20 שעות בשנה. במשק מייצרים מוצרי השקעה (מכונות) X ומוצרי צריכה Y. לייצור מוצר צריכה נדרשות 2 שעות מכונה. לייצור מוצר השקעה (מכונה) נדרשות 50 שעות מכונה. המשק זקוק לפחות ל-400 מוצרי צריכה לקיום בסיסי אולם צורך כיום 600 מוצרי צריכה. למשק יש בלאי (פחת) של 10 מכונות בשנה. מכאן ש:
- המשק מייצר השנה 20 מכונות חדשות.
 - מלאי ההון של המשק יצמח השנה ב-16 מכונות חדשות ועקומת התמורה תגדל בשנה הבאה.
 - אם המשק יגדיל את צריכת מוצרי הצריכה ל-750 יחידות, תחול במשק נסיגה כלכלית ועקומת התמורה תקטן בשנה הבאה.
 - אם למשק היה בלאי (פחת) של 24 מכונות בשנה, המשק לא יכול היה לצמוח.

55) משק מייצר מוצרי השקעה (מכונות) ומוצרי צריכה. המשק זקוק ל-1000 מוצרי צריכה לפחות. ידוע שלמשק יש בלאי של 50 מכונות בשנה. הנה טבלה המתארת את אפשרויות הייצור השנה בנקודות שונות על עקומת התמורה:

נקודה	כמות מכונות	כמות מוצרי צריכה
A	100	0
B	90	1000
C	70	1500
D	40	2100
E	0	2400

להלן מספר טענות:

- אם המשק מייצג בנקודה C, תחול נסיגה במשק.
- אם המשק מייצר בנקודה B, הוא יוכל לצרוך בשנה הבאה יותר מ-2400 מוצרי צריכה.
- כדאי למשק לייצר כמה שיותר מוצרים על מנת להעלות את איכות חייו משנה לשנה.
- אם המשק יצרוך 2100 יחידות של מוצרי צריכה, המשק יוכל לצמוח בשנה הבאה.

תשובות סופיות:

1) ג'	2) א'	3) א'	4) ב'	5) ג'
6) ג'	7) ד'	8) ג'	9) ב'	10) א'
11) ב'	12) א'	13) ג'	14) א'	15) ג'
16) ד'	17) ב'	18) ג'	19) ד'	20) ב'
21) ד'	22) ד'	23) ב'	24) ד'	25) א'
26) ג'	27) ג'	28) ג'	29) ג'	30) ג'
31) ג'	32) ג'	33) ד'	34) ג'	35) ד'
36) א'	37) ג'	38) ב'	39) ב'	40) ג'
41) ג'	42) ג'	43) א'	44) ג'	45) ב'
46) ה'	47) א'	48) ג'	49) ב'	50) ב'
51) א'	52) א'	53) ד'	54) ד'	55) ב'

יסודות הכלכלה מיקרו

פרק 3 - מסחר בינלאומי - המשך תרגיל 3

תוכן העניינים

1. שאלה פתוחה 19

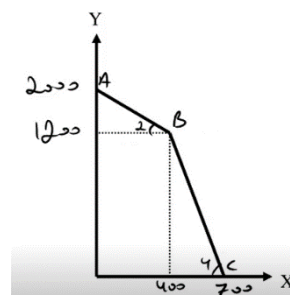
עקומת התמורה ומסחר בינלאומי:

שאלה מסכמת:

- 1) משק מייצר שני מוצרים X ו-Y באמצעות עובדים ועובדות. במשק יש 100 עובדים ו-100 עובדות. כל עובד יכול לייצר 3 יחידות ממוצר X או 12 יחידות ממוצר Y. כל עובדת יכולה לייצר 4 יחידות ממוצר X או 8 יחידות ממוצר Y. ידוע שהמשק מעוניין תמיד לצרוך ממוצר Y כמות הגדולה ב-100 יחידות מזו שיצרוך ממוצר X.
- א. שרטטו את עקומת התמורה של המשק.
 ב. מצאו את נקודת הייצור של המשק.
 ג. בפני המשק נפתחה אפשרות לסחר בינלאומי. מחירו העולמי של מוצר X הוא 6 ₪ ליחידה, מחירו העולמי של מוצר Y הוא 2 ₪ ליחידה, ובמחירים אלה יכול המשק לקנות ולמכור כל כמות שירצה. לפיכך:
- כמה יחידות ייצר המשק מכל מוצר?
 - כמה יחידות ייבא וייצא המשק מכל מוצר?
 - כמה יחידות יצרוך המשק מכל מוצר?

תשובות סופיות:

- 1) א.
- נקודת ייצור: (540, 640).
 - i. B(400, 1200).
 - ii. ייבוא: 175 מ-X, ייצוא: 525 מ-Y.
 - iii. נקודת צריכה: (575, 675).



יסודות הכלכלה מיקרו

פרק 4 - פונקציית היצור, עלויות ייצור ומיקסום רווח - מתאים לתרגילים 4, 5
ו 6

תוכן העניינים

1. פונקציות ייצור ופונקציות עלות (ללא ספר)

יסודות הכלכלה מיקרו

פרק 5 - הביקוש - מתאים לתרגיל 7

תוכן העניינים

1. תיאוריה (ללא ספר)

יסודות הכלכלה מיקרו

פרק 6 - עקומת הביקוש וגמישות - מתאים לתרגיל 8

תוכן העניינים

1. פונקציית הביקוש.....20

פונקציית הביקוש:

שאלות:

- (1) להלן מספר טענות על גמישות הביקוש ביחס למחיר:
- אם גמישות הביקוש גדולה מאחת, אזי אם מחיר המוצר יעלה, תגדל הוצאת הצרכן על המוצר.
 - אם גמישות הביקוש קטנה מאחת, אזי אם מחיר המוצר ירד, תגדל הוצאת הצרכן על המוצר.
 - אם גמישות הביקוש יחידתית, אזי אם מחיר המוצר יעלה, תגדל הוצאת הצרכן על המוצר.
 - אם גמישות הביקוש שווה לאפס, אזי אם מחיר המוצר יעלה, תגדל הוצאת הצרכן על המוצר.
- (2) צרכן מוציא את כל הכנסתו על רכישת המוצרים X , Y . להלן מספר טענות:
- אם תגדל הכנסת הצרכן, תגדל הכמות שהוא רוכש משני המוצרים.
 - אם מחירו של מוצר X יעלה אז תקטן הכמות שהצרכן רוכש משני המוצרים.
 - אם הצרכן מוציא אחוז קבוע על מוצר X , אז גמישות הביקוש ביחס למחיר של מוצר X היא יחידתית.
 - אם הצרכן מוציא אחוז קבוע על מוצר X , שני המוצרים הם משלימים.
- (3) צרכן מוציא את כל הכנסתו על רכישת המוצרים X , Y . נתון שגמישות הביקוש ביחס להכנסה של מוצר X היא יחידתית. להלן מספר טענות:
- אם תגדל הכנסת הצרכן, תגדל הכמות שהוא רוכש משני המוצרים.
 - שני המוצרים הם משלימים.
 - אם מחירו של מוצר X יעלה אז תקטן הכמות שהצרכן רוכש משני המוצרים.
 - אם גמישות הביקוש ביחס להכנסה של מוצר X היא יחידתית, אז לא בהכרח שגם גמישות הביקוש ביחס למחיר של מוצר Y היא יחידתית.
- (4) צרכן מוציא את כל הכנסתו על רכישת המוצרים X , Y . נתון שהוא צורך תמיד כמויות שוות משני המוצרים. להלן מספר טענות:
- אם גמישות הביקוש של שני המוצרים ביחס למחיר היא יחידתית.
 - שני המוצרים הם בלתי תלויים.
 - אם מחירו של מוצר X יעלה אז תקטן הכמות שהצרכן רוכש משני המוצרים.
 - אם מחירו של מוצר Y ירד אז תגדל הכמות שהצרכן רוכש ממוצר Y ותקטן הכמות שהצרכן רוכש ממוצר X .

- (5) צרכן מוציא את כל הכנסתו על רכישת מזון ולבוש. נתון שהוא צורך תמיד סכום קבוע על מזון ואת היתרה הוא מוציא על לבוש. הכנסתו מספיקה תמיד לרכישת שני המוצרים. להלן מספר טענות:
- א. גמישות הביקוש של שני המוצרים ביחס להכנסה היא יחידתית.
 - ב. שני המוצרים הם מוצרים משלימים.
 - ג. אם מחירו של המזון יעלה אז תקטן הכמות שהצרכן רוכש משני המוצרים.
 - ד. אם מחירו של הלבוש ירד אז תגדל הכמות שהצרכן רוכש מהלבוש ולא תשתנה הכמות שהצרכן רוכש מהמזון.
- (6) דני ויוסי מוציאים את כל הכנסתם על מזון ובילויים. דני תמיד מוציא 200 ₪ לבילויים בשבוע ואת יתרת הכנסתו על מזון. יוסי תמיד מוציא 20% מהכנסתו על בילויים ואת היתרה על מזון. מכאן ש:
- א. גמישות הביקוש ביחס להכנסה של שניהם יחידתית.
 - ב. גמישות הביקוש ביחס למחיר של יוסי גדולה יותר.
 - ג. עלייה במחיר הבילויים תגרום לשניהם לבלות פחות.
 - ד. עבור יוסי ודני, בילויים הם מוצר ניטרלי.
- (7) פונקציית הביקוש של צרכן א' למוצר X היא: $P = \frac{500}{Q}$, ואילו צרכן ב' מוציא 800 ₪ על מוצר X בכל מחיר ומחיר. מכאן ש:
- א. גמישות הביקוש ביחס למחיר גדולה יותר אצל צרכן ב'.
 - ב. גמישות הביקוש של צרכן ב' בטווח המחירים 500-800 היא 3-.
 - ג. גמישות הביקוש ביחס למחיר היא יחידתית עבור שני הצרכנים.
 - ד. כל הטענות האחרות אינן נכונות.

תשובות סופיות:

- (1) ד' (2) ג' (3) א' (4) ג' (5) ד' (6) ג' (7) ג'

יסודות הכלכלה מיקרו

פרק 7 - שיווי משקל בתחרות משוכללת - מתאים לתרגיל 9

תוכן העניינים

1. כללי 22
2. שיווי משקל במשק פתוח (ללא ספר)

שיווי משקל בתחרות משוכללת:

שאלות:

- (1) איזה מהגורמים הבאים משפיע על עקומת הביקוש?
 א. שיפור טכנולוגי.
 ב. עלייה במחיר חומרי הגלם.
 ג. עלייה במחיר מוצר תחליפי.
 ד. גידול במספר היצרנים.
- (2) איזה מהגורמים הבאים משפיע על עקומת ההיצע של יצרן בודד?
 א. גידול בתפוקה השולית של הפועלים.
 ב. התייקרות של ההוצאות הקבועות.
 ג. ירידה במחיר מוצר משלים.
 ד. עלייה במחיר מוצר תחליפי.
 ה. גידול במספר היצרנים.
- (3) להלן מספר טענות על עקומת הביקוש. איזו מהן נכונה:
 א. אם הביקוש גמיש לחלוטין, אזי הצרכנים מוכנים לשלם מחיר קבוע עבור כל כמות.
 ב. אם הביקוש קשיח לחלוטין, אזי הצרכנים מוכנים לשלם מחיר קבוע עבור כל כמות.
 ג. אם הביקוש גמיש לחלוטין, אזי הצרכנים מוכנים לשלם סכום קבוע עבור כל כמות.
 ד. אם הביקוש בעל גמישות יחידתית, אזי הצרכנים מוכנים לקנות כמות קבועה בכל מחיר.
- (4) להלן מספר טענות על עקומת ההיצע. איזו מהן אינה נכונה:
 א. אם ההיצע גמיש לחלוטין, התפוקה השולית קבועה.
 ב. אם ההיצע גמיש לחלוטין, אזי היצרנים מוכנים להציע כמות מסוימת בכל מחיר.
 ג. אם ההיצע עולה משמאל לימין, אזי התפוקה השולית פוחתת.
 ד. אם ההיצע בעל גמישות יחידתית, אזי עקומת ההיצע ליניארית ויוצאת מראשית הצירים.
- (5) להלן מספר טענות על שיווי משקל תחרותי ועקומות הביקוש וההיצע. איזו מהן נכונה:
 א. גידול בהיצע מגדיל את הביקוש.
 ב. שיפור טכנולוגי מגדיל את ההיצע ואת הביקוש.
 ג. עלייה בשכר העבודה תגרום לתזוזה של ההיצע ולתנועה על הביקוש.
 ד. גידול בהכנסת הצרכנים עבורם המוצר נורמלי במקביל לשיפור טכנולוגי יכולים לגרום לירידת הכמות בשיווי משקל.

- 6) שינוי בענף X גרם לכך שהמחיר ירד והכמות לא השתנתה.
מה יכול להיות הסבר אפשרי לכך:
- א. עקומות הביקוש וההיצע רגילות.
 - ב. עקומת הביקוש רגילה ועקומת ההיצע קשיחה לחלוטין.
 - ג. עקומת הביקוש רגילה ועקומת ההיצע גמישה לחלוטין.
 - ד. עקומת הביקוש גמישה לחלוטין ועקומת ההיצע רגילה.
- 7) בענף X חלו שינויים שהביאו להתייקרות המוצר ולירידה בכמות הנמכרת.
אלו מהמקרים הבאים יכול להסביר את השינוי:
1. אם שכר הפועלים מתייקר, ומחיר מוצר משלים מתייקר.
 2. אם שכר הפועלים מתייקר, ומחיר מוצר משלים מוזל.
 3. אם שכר הפועלים מוזל, ומחיר מוצר משלים מתייקר.
- א. רק מקרה 1 יכול להסביר את השינוי.
 - ב. רק מקרה 2 יכול להסביר את השינוי.
 - ג. רק מקרים 1,2 יכולים להסביר את השינוי.
 - ד. כל המקרים יכולים להסביר את השינוי.
- 8) משק מייצר שני מוצרים (X ו-Y). במצב הנוכחי תפוקתם השולית של העובדים בענף Y היא 500 יחידות, ובענף X היא 400 יחידות. מחירו של מוצר Y הוא 6 ₪ ושל מוצר X הוא 5 ₪.
- א. המשק מצוי בשיווי משקל תחרותי.
 - ב. לקבלת שיווי משקל תחרותי יעברו עובדים מענף X לענף Y.
 - ג. אם מחירו של מוצר Y ירד ל-3.5 ₪, יעברו עובדים מענף X לענף Y.
 - ד. אם מחירו של מוצר X יעלה ל-7.5 ₪, יעברו עובדים מענף X לענף Y.
- 9) מוצר X נסחר בתחרות משוכללת. עקומות ההיצע והביקוש רגילות.
בזכות עלייה ברמת הכנסותיהם החליטו הצרכנים להוציא סכום כפול על רכישת מוצר X.
- א. מחיר המוצר בשיווי משקל יוכפל.
 - ב. הכמות בשיווי משקל תוכפל.
 - ג. אם עקומת ההיצע הייתה קשיחה לחלוטין, מחיר המוצר בשיווי משקל היה מוכפל.
 - ד. אם עקומת ההיצע הייתה ליניארית ויוצאת מראשית הצירים, רווחי היצרן היו גדלים פי 4.

- 10** מוצר X נסחר בתחרות משוכללת. עקומות ההיצע והביקוש רגילות. בזכות עליה ברמת הכנסותיהם החליטו הצרכנים להגדיל את רכישת מוצר X ב-500 יחידות בכל רמת מחיר. במקביל הצטרפו למשק יצרנים נוספים שהגדילו את הכמות המוצעת ב-400 יחידות בכל רמת מחיר.
- מחיר המוצר בשיווי משקל יעלה.
 - הכמות בשיווי משקל תגדל ב-500 יחידות.
 - הכמות בשיווי משקל תגדל ב-400 יחידות.
 - מחיר המוצר בשיווי משקל ירד.
- 11** מוצר X נסחר בתחרות משוכללת. עקומות ההיצע והביקוש רגילות. הממשלה מוכנה לרכוש מהיצרנים 300 יחידות מוצר X, במחיר שלא יעלה על המחיר הקיים בשיווי המשקל המקורי, לפני כניסת הממשלה. במקביל חל שיפור טכנולוגי, המאפשר ליצרנים להגדיל את הכמות המוצעת ב-150 יחידות בכל רמת מחיר.
- מחיר המוצר בשיווי משקל יעלה.
 - הכמות בשיווי משקל תגדל ב-300 יחידות.
 - הכמות בשיווי משקל תגדל ב-150 יחידות.
 - מחיר המוצר בשיווי משקל ירד.
- 12** מוצר X נסחר בתחרות משוכללת. עקומות ההיצע והביקוש רגילות. כעת נוספו צרכנים נוספים המעוניינים לרכוש 100 יחידות במחיר שלא יעלה על המחיר הקיים בשיווי המשקל המקורי. במקביל נוספו למשק יצרנים נוספים שהגדילו את הכמות המוצעת ב-150 יחידות בכל רמת מחיר.
- מחיר המוצר בשיווי משקל יעלה.
 - הכמות בשיווי משקל תגדל ב-100 יחידות.
 - הכמות בשיווי משקל תגדל ב-150 יחידות.
 - מחיר המוצר בשיווי משקל ירד.
- 13** יצרן מוצר X פועל בתחרות משוכללת. ידוע שהיצרן מציע 1,000 יחידות. כעת חלה עלייה של 8 ₪ במחיר המוצר.
- רווחי היצרן יגדלו ב-8,000 ₪.
 - רווחי היצרן יגדלו ביותר מ-8,000 ₪.
 - אם ידוע שבשיווי משקל החדש, היצרן מוכר 1,200 יחידות, הרי שרווחו יגדלו ב-9,600 ₪.
 - אם היצרן היה בהפסד במצב המוצא, הרי שכעת הוא יעבור לרווח.

- 14** מחיר מוצר X ירד ומחיר מוצר Y עלה.
 מה מהמקרים הבאים יכול להסביר את השינויים :
- א. המוצרים תחליפיים, וחל שיפור טכנולוגי בייצור מוצר X.
 ב. המוצרים תחליפיים, וחלה עלייה בהכנסת הצרכנים.
 ג. המוצרים תחליפיים, וחלה התייקרות במחיר חומר הגלם של מוצר X.
 ד. המוצרים משלימים, וחל שיפור טכנולוגי בייצור מוצר X.
- 15** ירידה במחירי ביטוח הרכב השפיעה על שיווי המשקל בשוק המכוניות הפרטיות ועל שיווי המשקל בשוק הנסיעות במוניות (מוצר תחליפי לרכב פרטי).
 מה תהיה ההשפעה?
- א. מחירי הרכבים הפרטיים ומחירי הנסיעה במוניות יעלו.
 ב. מספר הרכבים הפרטיים ומספר הנסיעות במוניות יעלו.
 ג. מחירי הרכבים הפרטיים יעלו ומחירי הנסיעה במוניות ירדו.
 ד. לא ניתן לדעת בוודאות מה יקרה בשוק הנסיעות במוניות.

תשובות סופיות:

(1) ג'	(2) א'	(3) א'	(4) א'	(5) ג'
(6) ב'	(7) ג'	(8) ב'	(9) ג'	(10) א'
(11) ג'	(12) ד'	(13) ב'	(14) ד'	(15) ג'

יסודות הכלכלה מיקרו

פרק 8 - שוק גורם הייצור - מתאים לתרגיל 10

תוכן העניינים

1. קשרי גומלין בין שוק המוצר לשוק גורמי הייצור (ללא ספר)

יסודות הכלכלה מיקרו

פרק 9 - התערבות ממשלה במשק סגור - מתאים לתרגילים 11 ו 12

תוכן העניינים

1. כללי.....26

התערבות ממשלה:

שאלות:

- (1) בשוק X שוררת תחרות משוכללת. הניחו שעקומות ההיצע והביקוש לרגילות (עקומת הביקוש יורדת משמאל לימין ועקומת ההיצע עולה משמאל לימין). הכמות הנמכרת במצב המוצא היא 1000 יחידות. הממשלה נותנת ליצרנים סובסידיה לכל יחידה מיוצרת של 10 ₪. מכאן ש:
- רק היצרנים ייהנו מהסובסידיה.
 - המחיר ליצרן ולצרכן יירד.
 - הוצאות הממשלה על הסובסידיה תהיינה גבוהות מ-10,000 ₪.
 - המחיר לצרכן יירד ב-10 ₪ בדיוק.
- (2) בשוק X שוררת תחרות משוכללת. הניחו שעקומות ההיצע והביקוש לרגילות (עקומת הביקוש יורדת משמאל לימין ועקומת ההיצע עולה משמאל לימין). הממשלה נותנת ליצרנים סובסידיה בגודל קבוע לכל יחידה מיוצרת. מכאן ש:
- ככל שעקומת הביקוש גמישה יותר, הירידה במחיר לצרכן תהיה גדולה יותר.
 - ככל שעקומת הביקוש קשיחה יותר, העלייה במחיר ליצרן תהיה גדולה יותר.
 - ככל שעקומת ההיצע גמישה יותר, הירידה במחיר לצרכן תהיה קטנה יותר.
 - ככל שעקומת ההיצע קשיחה יותר, העלייה במחיר ליצרן תהיה גדולה יותר.
 - השינוי במחירים אינו תלוי בגמישויות של עקומות ההיצע והביקוש.
- (3) בשוק X שוררת תחרות משוכללת. הניחו שעקומות ההיצע והביקוש לרגילות (עקומת הביקוש יורדת משמאל לימין ועקומת ההיצע עולה משמאל לימין). הממשלה נותנת ליצרנים סובסידיה בגודל קבוע לכל יחידה מיוצרת. מכאן ש:
- אם הממשלה תיתן את הסובסידיה לצרכנים יתקבל שיווי משקל שונה.
 - אם עקומת ההיצע גמישה לחלוטין, המחיר לצרכן לא ישתנה.
 - אם עקומת הביקוש גמישה לחלוטין, המחיר לצרכן לא ישתנה.
 - אם עקומת ההיצע קשיחה לחלוטין, המחיר ליצרן לא ישתנה.
 - אם עקומת הביקוש קשיחה לחלוטין, המחיר לצרכן לא ישתנה.
- (4) נתון שבשיווי משקל נמכרת כמות של 100 יחידות ממוצר X במחיר של 50 ₪. הממשלה מעוניינת להוריד את המחיר לצרכן ב-10 ₪.
- אם עקומות הביקוש וההיצע רגילות, על הממשלה לתת סובסידיה ליצרן גבוהה מ-10 ₪. במקרה כזה, העלות הכוללת של הסובסידיה תהיה 1,000 ₪.
 - אם עקומת הביקוש קשיחה לחלוטין, על הממשלה לתת סובסידיה ליצרן של 10 ₪ בדיוק, והעלות הכוללת של הסובסידיה תהיה 1,000 ₪.
 - אם עקומת הביקוש גמישה לחלוטין, על הממשלה לתת סובסידיה ליצרן של 10 ₪ בדיוק, והעלות הכוללת של הסובסידיה תהיה 1,000 ₪.
 - הממשלה יכולה לקבוע מחיר מקסימום של 40 ש"ח ולתת ליצרן סובסידיה של 10 ש"ח ליחידה.

- (5) בשוק X שוררת תחרות משוכללת. עקומת הביקוש היא: $P=250-5Q$. עקומת ההיצע ליניארית ויוצאת מראשית הצירים. במצב המוצא, מחיר שיווי משקל הוא 125 ₪. הממשלה נתנה ליצרנים סובסידיה שהורידה את מחיר המוצר לצרכן ב-20%. מכאן ש:
- המחיר ליצרן (לאחר הסובסידיה) יעלה ב-25%.
 - הכמות המיוצרת בשיווי המשקל החדש תגדל ב-20%.
 - הוצאות הממשלה על הסובסידיה יהיו בגובה 1,250 ₪.
 - אם הממשלה הייתה קובעת מחיר מקסימום של 75 ₪, הייתה נדרשת סובסידיה של 75 ₪.
- (6) הצרכנים מוכנים להוציא סכום קבוע לצפייה בסרטי קולנוע ישראלים. ידוע שהיצע הסרטים עולה משמאל לימין. המחיר בשיווי משקל הוא 33 ₪ והכמות הנרכשת היא 10,000 כרטיסים בחודש. המועצה לעידוד הקולנוע הישראלי החליטה לתת סובסידיה לבתי הקולנוע, כך שהמחיר לצרכן בשיווי משקל ירד ל-30 ₪. תקציב הסובסידיה הדרוש הוא:
- 33,000 ₪ בחודש.
 - יותר מ-33,000 ₪ בחודש.
 - לא ניתן לומר בוודאות.
 - פחות מ-33,000 ₪ בחודש.
- (7) בשוק X קיימים שני סוגי צרכנים: מוסדות ציבוריים וצרכנים פרטיים. הממשלה החליטה לסבסד את רכישת המוצר ע"י המוסדות הציבוריים. כתוצאה מכך:
- הכמות הכוללת הנרכשת בשוק תגדל בפחות מאשר הכמות הנרכשת ע"י המוסדות הציבוריים.
 - המחיר לצרכנים הפרטיים יעלה, והוצאותיהם על המוצר יקטנו.
 - המחיר למוסדות הציבוריים ירד, והוצאותיהם על המוצר יקטנו.
 - הקיטון בכמות הנרכשת ע"י הצרכנים הפרטיים גדול יותר (בערך מוחלט) מאשר הגידול בכמות הנרכשת ע"י המוסדות הציבוריים.
- (8) בשוק X, עקומות ביקוש והיצע רגילות. הממשלה מחליטה לקבוע מחיר מינימום. לשם כך היא בוחנת שתי דרכים לתמוך בשמירה על מחיר המינימום:
- סובסידיה ליצרן על כל יחידה מיוצרת.
 - קניית עודפים.
- הצרכנים מעדיפים את השיטה הראשונה, ואילו היצרנים אדישים בין השתיים.
 - הוצאות הממשלה שוות בשתי הדרכים.
 - הצרכנים והיצרנים אדישים בין שתי הדרכים.
 - היצרנים אדישים בין שתי הדרכים המוצעות ובין דרך שלישית של מכסת ייצור.

- 9) בשוק החלב, עקומות ביקוש והיצע רגילות. המחיר בשיווי משקל הוא 5 ₪ והממשלה מחליטה לקבוע מחיר מקסימום של 3 ₪. לשם כך היא שוקלת לתת ליצרנים סובסידיה של 2 ₪ או למכור לצרכנים את עודפי הביקוש. צעד כזה יוביל ל:
- א. סובסידיה של 2 ₪ ליצרן תשיג את המטרה.
 - ב. סובסידיה של 2 ₪ ליצרן תגרום לעודף ביקוש בשוק החלב.
 - ג. היצרנים אדישים בין שתי הדרכים המוצעות.
 - ד. הצרכנים מעדיפים שהממשלה תיתן סובסידיה.
- 10) בשוק מוצר X נתונה עקומת הביקוש: $P=800-8Q$. עקומת ההיצע שווה: $P=2Q$. הממשלה הטילה מס על היצרן בסך 50 ₪ על כל יחידה מיוצרת. כתוצאה מהטלת המס:
- א. המחיר לצרכן יעלה ב-25 ₪ והכנסות הממשלה ממס יהיה בגובה 3,750 ₪.
 - ב. המס יתחלק בין היצרן לצרכן באופן שווה.
 - ג. אם עקומת ההיצע הייתה גמישה לחלוטין, המחיר ליצרן היה קטן ב-50 ₪ בדיוק.
 - ד. המחיר לצרכן יעלה ב-25% והכנסות הממשלה ממס יהיה בגובה 3,750 ₪.
- 11) בשוק החלב (חלב פרות) ניתנת סובסידיה בסך 1 ₪ לכל ליטר חלב נמכר בשוק. באלו מהמצבים הבאים תקטן ההוצאה הממשלתית על הסובסידיה בשנה הבאה:
- א. מחלה פגעה בעדרי העיזים ותנובת חלב העיזים (מוצר תחליפי) צפויה לרדת בשנה הבאה.
 - ב. הממשלה מחליטה להקטין בשנה הבאה את הסובסידיה על שמנת, המיוצרת מחלב.
 - ג. שכר העבודה בענף ייצור החלב צפוי לרדת בשנה הבאה.
 - ד. הממשלה מתכוונת להטיל מס על כל קופסת קפה הנמכרת בשוק (מוצר משלים לחלב). ידוע שהביקוש לקפה קשיח לחלוטין.
- 12) בשוק X שורר שיווי משקל של תחרות משוכללת והמחיר בשוק הוא 40 ₪. עקומות ההיצע והביקוש רגילות. הממשלה שוקלת שתי שיטות לתת סובסידיה ליצרנים על כל יחידה מיוצרת:
- שיטה א': סובסידיה בסך 20 ₪ ליחידה.
שיטה ב': סובסידיה בגובה 50% מהמחיר ליצרן.
- א. הצרכנים יעדיפו את שיטה א' ואילו היצרנים יעדיפו את שיטה ב'.
 - ב. הצרכנים יעדיפו את שיטה ב' ואילו היצרנים יעדיפו את שיטה א'.
 - ג. הצרכנים והיצרנים יעדיפו את שיטה א'.
 - ד. הצרכנים והיצרנים יעדיפו את שיטה ב'.

- 13** בשוק X ובשוק Y, עקומות ביקוש והיצע רגילות. בשני השווקים מוטל מס על היצרנים על כל יחידה מיוצרת. הממשלה מחליטה להגדיל את המס בשוק X.
- א. אם Y הוא מוצר משלים למוצר X, תקטנה ההוצאות של הצרכנים על מוצר Y.
- ב. אם Y הוא מוצר תחליפי למוצר X, הכנסות הממשלה ממיסים תגדלנה בשני השווקים.
- ג. הוצאות הצרכנים על מוצר X תקטנה.
- ד. אם Y הוא מוצר תחליפי למוצר X, ירד מחירו של מוצר Y.
- 14** בשוק מוצר X שורר שיווי משקל של תחרות משוכללת והמחיר בשוק הוא 20 ₪. עקומות ההיצע והביקוש רגילות. ידוע שהמשק סגור למסחר בינלאומי והמחיר העולמי של מוצר X הוא 30 ₪. הממשלה שוקלת שלוש שיטות לעודד את הייצור המקומי:
- שיטה א': פתיחת המשק למסחר בינלאומי;
- שיטה ב': סובסידיה בסך 10 ₪ לכל יחידה מיוצרת;
- שיטה ג': קביעת מחיר מינימום של 30 ₪ וקניית העודפים.
- להלן מספר טענות על השפעת השיטות השונות:
- א. המחיר ליצרן ולצרכן יהיה 30 ₪ בכל השיטות.
- ב. הוצאות הממשלה תהיינה זהות בכל השיטות.
- ג. היצרנים אדישים בין הפעלת שיטות א' וג' ומעדיפים אותן על פני שיטה ב'.
- ד. הצרכנים אדישים בין הפעלת שיטות א' וג' ומעדיפים אותן על פני שיטה ב'.
- 15** X ו-Y הם מוצרים משלימים הנמכרים בתנאי תחרות משוכללת. עקומות ההיצע והביקוש רגילות. ידוע שבמצב ההתחלתי על שני המוצרים ניתנת סובסידיה ליצרן לכל יחידה מיוצרת. העלאת גודל הסובסידיה על כל יחידה בענף X תגרום לאחד מהשינויים הבאים:
- א. תגדיל בהכרח את הוצאות הממשלה על הסובסידיה בענף Y, אך לא ידוע אם תגדיל את הוצאות הממשלה על הסובסידיה בענף X.
- ב. תגדיל בהכרח את רווחי יצרני מוצר X, אך לא ידוע אם תגדיל את רווחי יצרני מוצר Y.
- ג. תגדיל בהכרח את הוצאות צרכני מוצר Y, אך לא ידוע אם תגדיל את הוצאות צרכני מוצר X.
- ד. אם עקומת ההיצע של מוצר Y קשיחה לחלוטין, תגדלנה הוצאות הממשלה על הסובסידיה בענף Y.

- 16** X ו-Y הם מוצרים תחליפיים הנמכרים בתנאי תחרות משוכללת. עקומות ההיצע והביקוש רגילות. במצב המוצא מוטל מס על כל יחידה מיוצרת בשוק מוצר X. הממשלה מחליטה לקבוע מחיר מקסימום בשוק מוצר Y ולספק את עודפי הביקוש. פעולה זו תגרום לאחד מהשינויים הבאים:
- תקטין בהכרח את הכנסות הממשלה ממס בשוק X.
 - תגדיל בהכרח את רווחי יצרני מוצר X, אך לא ידוע אם תגדיל את רווחי יצרני מוצר Y.
 - תגדיל בהכרח את הוצאות צרכני מוצר Y, אך לא ידוע אם תגדיל את הוצאות צרכני מוצר X.
 - אילו הממשלה הייתה נותנת סובסידיה ליצרנים בשוק Y כדי להוריד את המחיר לצרכנים במקום קביעת מחיר מקסימום, מצב הצרכנים והיצרנים היה משתפר בשני השווקים.

- 17** בשוק מוצר X שורר שיווי משקל של תחרות משוכללת. עקומות הביקוש וההיצע רגילות. הממשלה מעוניינת להגדיל את הכמות המיוצרת בענף ושוקלת שתי אפשרויות:
- לתת ליצרנים סובסידיה בסכום קבוע לכל יחידה מיוצרת.
 - לתת לצרכנים סובסידיה בסכום קבוע לכל יחידה נרכשת.

להלן מספר טענות:

- היצרנים מעדיפים את האפשרות הראשונה והצרכנים מעדיפים את האפשרות השנייה.
- היצרנים והצרכנים מעדיפים את האפשרות הראשונה.
- היצרנים והצרכנים מעדיפים את האפשרות השנייה.
- היצרנים והצרכנים אדישים בין שתי האפשרויות.

- 18** בשוק מוצר X שורר שיווי משקל של תחרות משוכללת. הממשלה מטילה על היצרנים מס של 6 ₪ לכל יחידה מיוצרת. ידוע שגמישות עקומת הביקוש היא 2 בערך מוחלט וגמישות עקומת ההיצע היא 1 בערך מוחלט. מכאן ש:
- המחיר ליצרן ירד ב-4 ₪.
 - המחיר לצרכן ירד ב-4 ₪.
 - המחיר לצרכן יעלה ב-4 ₪.
 - חסרים נתונים כדי לקבוע מה יקרה למחיר לצרכן וליצרן.

- 19** בשוק מוצר X שורר שיווי משקל של תחרות משוכללת. שכר הפועלים התייקר ב-100 ₪ וידוע התפוקה השולית בשיווי משקל הייתה 50 יחידות. הממשלה מעוניינת שהכמות המיוצרת לא תשתנה ונותנת ליצרנים סובסידיה לכל יחידה מיוצרת. גובה הסובסידיה הדרוש הוא:

- 1 ₪.
- 2 ₪.
- 3 ₪.
- 100 ₪.

(20) בשוק מוצר X שורר שיווי משקל של תחרות משוכללת. הממשלה מטילה על היצרנים מס לכל יחידה מיוצרת. כעת הממשלה מעוניינת להגדיל את גובה המס לכל יחידה מיוצרת.

- הכנסות הממשלה מהמס יגדלו.
- הכנסות הממשלה מהמס יגדלו אם גמישות הביקוש קטנה או שווה לאחת.
- הכנסות הממשלה מהמס יגדלו רק אם גמישות הביקוש קטנה או שווה לאחת.
- כל הטענות האחרות אינן נכונות.

(21) בשוק מוצר X שורר שיווי משקל של תחרות משוכללת. הממשלה מטילה על היצרנים מס לכל יחידה מיוצרת. כעת הממשלה מקטינה את גובה המס לכל יחידה מיוצרת. ידוע שגמישות הביקוש שווה לאחת.

- הכנסות הממשלה מהמס יגדלו.
- הכנסות הממשלה מהמס יקטנו.
- הכנסות הממשלה מהמס לא ישתנו מפני שהצרכנים מוציאים סכום קבוע על המוצר.
- כל הטענות האחרות אינן נכונות.

(22) בשוק מוצר X שורר שיווי משקל של תחרות משוכללת. הממשלה מטילה על היצרנים מס לכל יחידה מיוצרת. לאחרונה גדלו הכנסות הממשלה מהמס, מבלי שחל שינוי בגובה המס ליחידה. מה יכול להיות הסבר אפשרי לתופעה זו:

- הכנסות הצרכנים גדלו והמוצר ניטראלי עבורם.
- חלה עלייה בשכר העובדים בענף X.
- חל שיפור טכנולוגי בענף X.
- עלה מחיר של מוצר משלים למוצר X.

(23) בשוק מוצר X שורר שיווי משקל של תחרות משוכללת. עקומת הביקוש וההיצע רגילות. עקומת הביקוש נתונה והיא: $P=120-2Q$ ועקומת ההיצע נתונה והיא: $P=Q$. הממשלה קבעה מחיר מינימום בסך 50 ₪. כעת הממשלה שוקלת שלוש שיטות להבטיח את מחיר המינימום, על מנת לתמוך ביצרנים:

- סובסידיה לכל יחידה מיוצרת.
- קניית עודפים (עודפי היצע).
- קביעת מכסות ייצור.

איזו מן הטענות הבאות אינה נכונה:

- שיווי המשקל התחרותי הוא במחיר של 40 ₪.
- הוצאות הממשלה בשיטה 1 הן בסך 1,500 ₪.
- הוצאות הממשלה בשיטה 2 הן בסך 750 ₪.
- מכסות הייצור הדרושות הן 30 יחידות.

- (24)** בשוק מוצר X שורר שיווי משקל של תחרות משוכללת. עקומות הביקוש וההיצע רגילות. הממשלה קבעה מחיר מינימום. כעת הממשלה שוקלת שלוש שיטות להבטיח את מחיר המינימום, על מנת לתמוך ביצרנים:
1. סובסידיה לכל יחידה מיוצרת.
 2. קניית עודפים (עודפי היצע).
 3. קביעת מכסות ייצור.

להלן מספר טענות:

- א. המחיר לצרכן יעלה בשלוש השיטות.
- ב. הגידול ברווחי היצרנים זהה בשלוש השיטות.
- ג. הוצאות הממשלה זהות בשלוש השיטות.
- ד. כל הטענות האחרות אינן נכונות.

- (25)** בשוק מוצר X שורר שיווי משקל של תחרות משוכללת. עקומות הביקוש וההיצע רגילות. עקומת הביקוש נתונה והיא: $P=120-Q$ ועקומת ההיצע נתונה והיא: $P=2Q$. הממשלה קבעה מחיר מקסימום של 50 ₪. כעת הממשלה שוקלת שלוש שיטות להבטיח את מחיר המקסימום, על מנת לתמוך בצרכנים:
1. סובסידיה לכל יחידה מיוצרת.
 2. אספקת עודפים (עודפי ביקוש). ידוע שהממשלה רוכשת את המוצר בחו"ל במחיר של 70 ₪ ליחידה.
 3. קביעת קיצוב (ע"י תלושים).

איזו מן הטענות הבאות אינה נכונה:

- א. שיווי המשקל התחרותי הוא במחיר של 80 ₪.
- ב. הוצאות הממשלה בשיטה 1 הן בסך 6,300 ₪.
- ג. הוצאות הממשלה (לאחר ניכוי ההכנסות ממכירת המוצר) בשיטה 2 הן בסך 800 ₪.
- ד. סך הקיצוב הדרוש הוא 25 יחידות.

- (26)** בשוק מוצר X שורר שיווי משקל של תחרות משוכללת. עקומות הביקוש וההיצע רגילות. הממשלה שוקלת שתי שיטות להבטיח מחיר המינימום, על מנת לתמוך ביצרנים:
1. סובסידיה לכל יחידה מיוצרת.
 2. קניית עודפים (עודפי היצע).
- להלן מספר טענות:

- א. אם גמישות הביקוש קטנה מיחידתית, אז הוצאות הממשלה בשיטה השנייה (קניית עודפים) תהיינה גדולות יותר.
- ב. אם גמישות הביקוש גדולה מיחידתית, אז הוצאות הממשלה בשיטה הראשונה (סובסידיה לכל יחידה מיוצרת) תהיינה גדולות יותר.
- ג. לא ניתן ללא מידע נוסף על גמישות ההיצע.
- ד. אם גמישות הביקוש יחידתית, אז הוצאות הממשלה זהות בשתי השיטות.

- (27)** בשוק מוצר X שורר שיווי משקל של תחרות משוכללת. עקומות הביקוש וההיצע רגילות. הממשלה מבטיחה מחיר המינימום, על מנת לתמוך ביצרנים ושומרת על מחיר המינימום ע"י קניית עודפי ההיצע. ידוע שמחיר שיווי המשקל במצב המוצא היה 200 ₪ וכמות שיווי המשקל הייתה 1000. מחיר המינימום נקבע על 220 ₪. כמו כן, גמישות ההיצע היא יחידתית וגמישות ביקוש היא 2- . מכאן ש :
- הממשלה תקנה 200 יחידות.
 - הוצאות הממשלה תהיינה 66,000 ₪.
 - אם הממשלה הייתה בוחרת לתת סובסידיה לכל יחידה מיוצרת במקום לקנות את עודפי ההיצע, היא הייתה צריכה לתת 20 ₪ ליחידה.
 - כל הטענות האחרות אינן נכונות.
- (28)** במצב המוצא, המחיר בשיווי משקל הוא 10 ₪ והוצאות הצרכנים הן 1000 ₪. הממשלה מעוניינת שהמחיר ליצרנים יעלה ב-2 ₪ ולכן היא נותנת להם סובסידיה לכל יחידה מיוצרת. ידוע שעקומות ההיצע והביקוש בעלות גמישות יחידתית. מכאן ש :
- רווחי היצרנים יעלו ב-220 ₪.
 - גובה הסובסידיה יהיה 6 ₪ ליחידה.
 - הוצאות הממשלה על הסובסידיה יהיו 240 ₪.
 - הוצאות הצרכנים יקטנו ב-1,000.
- (29)** במצב המוצא, הממשלה נותנת ליצרנים סובסידיה של 5 ₪ על כל יחידה מיוצרת. ידוע שהמחיר ליצרנים במצב המוצא היה 20 ₪ וכמות שיווי המשקל הייתה 1000. כעת הממשלה ביטלה את הסובסידיה ולכן המחיר ליצרן ירד ל-18 ₪. אם ידוע שגמישות ההיצע בתחום הרלוונטי היא יחידתית. אזי גמישות הביקוש (בערך מוחלט) שווה :
- $\frac{1}{2}$.
 - 1.
 - 2.
 - 3.
- (30)** בשוק מוצר X שורר שיווי משקל של תחרות משוכללת. עקומות הביקוש וההיצע רגילות. הממשלה קבעה מחיר מינימום של 50 ₪, הגבוה מהמחיר השורר בתנאי תחרות משוכללת. ידוע שבמחיר זה היצרנים מציעים 1,000 יחידות והצרכנים קונים 200 יחידות. עוד נתון שהצרכנים מוכנים לשלם 10 ₪ ליחידה במידה והם רוכשים 1,000 יחידות. הממשלה שוקלת שלוש שיטות להבטיח את מחיר המינימום :
- סובסידיה לכל יחידה מיוצרת.
 - קניית עודפים (עודפי היצע).
 - קביעת מכסות ייצור.

להלן מספר טענות :

- א. הוצאות הממשלה בשיטה הראשונה תהיינה גבוהות מהוצאותיה בשיטה השנייה.
- ב. גמישות הביקוש הקשתית בין בתחום המחירים 10-50 היא יחידתית.
- ג. הוצאות הצרכנים בשיטה הראשונה תהיינה גבוהות מהוצאותיהם בשיטה השנייה.
- ד. על הממשלה לקבוע מכסות ייצור בכמות של 1,000 יחידות.

(31) בשוק מוצר X שורר שיווי משקל של תחרות משוכללת. עקומות הביקוש וההיצע רגילות. הממשלה שוקלת שתי שיטות להבטיח מחיר המינימום, על מנת לתמוך ביצרנים :

1. סובסידיה לכל יחידה מיוצרת.
2. קניית עודפים (עודפי היצע).

- א. בשיטה 1, הוצאות הממשלה תהיינה נמוכות יותר ככל שעקומות הביקוש וההיצע תהיינה גמישות יותר.
- ב. בשיטה 2, הוצאות הממשלה תהיינה גבוהות יותר ככל שעקומות הביקוש וההיצע תהיינה גמישות יותר.
- ג. בשיטה 1, הוצאות הממשלה תהיינה נמוכות יותר ככל שעקומות הביקוש וההיצע תהיינה קשיחות יותר.
- ד. בשיטה 2, הוצאות הממשלה תהיינה נמוכות יותר ככל שעקומות הביקוש יותר גמישה ועקומות ההיצע יותר קשיחה.

(32) בשוק מוצר X שורר שיווי משקל של תחרות משוכללת. עקומות הביקוש וההיצע רגילות. הממשלה שוקלת שתי שיטות להבטיח מחיר מקסימום בשוק הלחם, על מנת לתמוך בצרכנים :

1. סובסידיה לכל יחידה מיוצרת.
2. אספקת עודפי הביקוש (הניחו שהממשלה קונה את המוצר בחו"ל במחיר גבוה ממחיר המקסימום).

- א. בשיטה 1, הוצאות הממשלה תהיינה נמוכות יותר ככל שעקומות הביקוש וההיצע תהיינה גמישות יותר.
- ב. בשיטה 2, הוצאות הממשלה תהיינה גבוהות יותר ככל שעקומות הביקוש וההיצע תהיינה גמישות יותר.
- ג. בשיטה 1, הוצאות הממשלה תהיינה נמוכות יותר ככל שעקומות הביקוש וההיצע יותר גמישה ועקומות ההיצע יותר קשיחה.
- ד. בשיטה 2, הוצאות הממשלה תהיינה נמוכות יותר ככל שעקומות הביקוש וההיצע תהיינה קשיחות יותר.

33 שוק מוצר X מצוי בשיווי משקל תחרותי. הממשלה קבעה מחיר מינימום למוצר X ושומרת עליו בעזרת מתן סובסידיה לכל יחידה מיוצרת. כעת הממשלה מחליטה להטיל מס קנייה בענף Y. מוצר Y הוא תחליפי למוצר X. מכאן ש:

- הוצאות הממשלה על הסובסידיה בענף X יגדלו.
- הוצאות הממשלה על הסובסידיה בענף X לא ישתנו.
- הוצאות הממשלה על הסובסידיה בענף X יקטנו.
- לא ניתן לדעת מה יקרה להוצאות הממשלה על הסובסידיה בענף X.

34 שוק מוצר X מצוי בשיווי משקל תחרותי. הממשלה קבעה מחיר מקסימום למוצר X ושומרת עליו בעזרת מתן סובסידיה לכל יחידה מיוצרת. כעת חל שיפור טכנולוגי בייצור מוצר X, ולאחריו עדיין נדרשת התערבות הממשלה. מכאן ש:

- הוצאות הממשלה על הסובסידיה בענף X יגדלו.
- הוצאות הממשלה על הסובסידיה בענף X לא ישתנו.
- הוצאות הצרכנים יגדלו.
- רווחי היצרנים בענף Y (תחליפי ל-X) לא ישתנו.

35 במשק יש שני צרכנים, הצורכים את מוצר X. עבור צרכן א' מוצר X נורמלי ועבור צרכן ב' הוא נחות. מכאן ש:

- אם הכנסת שני הצרכנים תעלה, יגדל הביקוש למוצר X.
- אם הכנסת שני הצרכנים תרד, יגדל הביקוש למוצר X.
- אם הכנסת צרכן א' תעלה והכנסת צרכן ב' תרד, יעלה הביקוש למוצר X.
- אם הכנסת צרכן ב' תעלה והכנסת צרכן א' תרד, יעלה הביקוש למוצר X.

36 בארץ עוץ יש יצרני כובעים בצפון ובדרום. הממשלה החליטה להטיל מס על כל כובע שמיוצר בדרום. ידוע שעקומות ההיצע והביקוש רגילות ובשוק הכובעים שוררת תחרות משוכללת. כתוצאה מכך:

- מחיר הכובעים בשוק יעלה והכמות הנמכרת תגדל.
- רווחי יצרני הכובעים בצפון יעלו.
- הוצאות הצרכנים על כובעים ירדו.
- המחיר שמקבלים יצרני הצפון והדרום עלה.

37 בשוק X קיימים שני סוגי צרכנים: צעירים ומבוגרים. הממשלה החליטה לבטל סובסידיה שניתנה לצעירים לרכישת המוצר. כתוצאה מכך:

- המחיר למבוגרים יעלה, והוצאותיהם על המוצר יקטנו.
- הוצאות הצעירים על מוצר X יגדלו והוצאות המבוגרים על מוצר X יקטנו.
- המחיר לצעירים יעלה והכנסות היצרנים יקטנו.
- הכמות הכוללת הנרכשת בשוק תקטן ביותר מאשר הכמות הנרכשת ע"י הצעירים.

- 38** לחם וחמאה הם מוצרים משלימים. עקומות ההיצע והביקוש רגילות בשני הענפים. הממשלה מחליטה לקבוע מחיר מקסימום בענף הלחם ולשמור עליו ע"י נתינת סובסידיה לכל יחידה מיוצרת. ידוע שהוצאות הממשלה על הסובסידיה ללחם יהיו בסך 1 מיליון ₪. מכאן ש:
- אם בענף החמאה קיים מחיר מינימום שנשמר ע"י קניית עודפים, אז רווחי יצרני החמאה לא ישתנו. הניחו שהממשלה ממשיכה לקנות עודפים גם לאחר השינוי.
 - רווחי יצרני הלחם יגדלו ורווחי יצרני החמאה יקטנו.
 - הוצאות הצרכנים על לחם וחמאה יגדלו (על כל מוצר בנפרד ובסך הכול).
 - אם מוטל מס על כל חמאה שנרכשת, אז הוצאות הממשלה בפועל משני הענפים תהיינה גבוהות מ-1 מיליון ₪.

- 39** בשוק X קיימים שני סוגי צרכנים: מוסדות ציבוריים וצרכנים פרטיים. הממשלה החליטה להטיל מס קנייה רק על הצרכנים הפרטיים. כתוצאה מכך:
- הכמות הכוללת הנרכשת בשוק תקטן, והכמות הנרכשת ע"י המוסדות הציבוריים תקטן.
 - המחיר לצרכנים הפרטיים יעלה, והוצאותיהם על המוצר יקטנו.
 - המחיר למוסדות הציבוריים ירד, והוצאותיהם על המוצר יקטנו.
 - הקיטון בכמות הנרכשת ע"י הצרכנים הפרטיים גדול יותר (בערך מוחלט) מאשר הגידול בכמות הנרכשת ע"י המוסדות הציבוריים.

- 40** בשוק מוצר X נתונה עקומת הביקוש: $P=100-2Q$. עקומת ההיצע שווה: $P=20+2Q$. מכאן ש:

- רווחי היצרנים שווים 300.
- עודף הצרכן שווה 300.
- עודף היצרן שווה לעודף הצרכן.
- הוצאות הצרכנים שווים 800.

- 41** שוק מוצר מזון לתינוקות מצוי בתחרות משוכללת. עקומות הביקוש וההיצע רגילות. שר הרווחה הציע לתת סובסידיה לכל יחידה מיוצרת, על מנת להגדיל את הרווחה במשק. מכאן ש:

- עודף היצרן, עודף הצרכן והרווחה במשק יגדלו.
- עודף היצרן ועודף הצרכן יגדלו והרווחה במשק תקטן.
- עודף היצרן, עודף הצרכן והרווחה במשק יקטנו.
- לא ניתן לומר בוודאות מה יקרה לעודפי היצרן והצרכן.

- 42** שוק מוצר X מצוי בתחרות משוכללת. עקומות הביקוש וההיצע רגילות. כעת הממשלה מחליטה להטיל מס על כל יחידה מיוצרת. מכאן ש:
- עודף היצרן, עודף הצרכן והרווחה במשק יגדלו.
 - עודף היצרן ועודף הצרכן יקטנו והרווחה במשק תגדל בגלל הכנסות הממשלה מהמס.
 - עודף היצרן, עודף הצרכן והרווחה במשק יקטנו.
 - לא ניתן לומר בוודאות מה יקרה לעודפי היצרן והצרכן.
- 43** שוק מוצר X מצוי בתחרות משוכללת. עקומות הביקוש וההיצע רגילות. כעת הממשלה מחליטה לקבוע מחיר מינימום ולשמור עליו ע"י סובסידיה. מכאן ש:
- הסכום הכולל של עודף היצרן + עודף הצרכן (בשני הענפים) יגדל והרווחה במשק תגדל.
 - הסכום הכולל של עודף היצרן + עודף הצרכן (בשני הענפים) יקטן והרווחה במשק תגדל.
 - הסכום הכולל של עודף היצרן + עודף הצרכן (בשני הענפים) יקטן והרווחה במשק תקטן.
 - הסכום הכולל של עודף היצרן + עודף הצרכן (בשני הענפים) יגדל והרווחה במשק תקטן.
- 44** בשוק מוצר X מוטל מס לכל יחידה ובשוק מוצר Y נותנת הממשלה סובסידיה ליצרנים עבור עכל יחידה מיוצרת. ידוע שהממשלה מממנת את הוצאותיה על הסובסידיה בענף Y באופן מלא ע"י הכנסותיה מהמס בענף X. מכאן ש:
- הסכום הכולל של עודף היצרן + עודף הצרכן (בשני הענפים) יגדל והרווחה במשק תגדל.
 - הסכום הכולל של עודף היצרן + עודף הצרכן (בשני הענפים) יקטן והרווחה במשק תגדל.
 - הסכום הכולל של עודף היצרן + עודף הצרכן (בשני הענפים) יקטן והרווחה במשק תקטן.
 - הסכום הכולל של עודף היצרן + עודף הצרכן (בשני הענפים) יגדל והרווחה במשק תקטן.
- 45** בשוק המכוניות קיימים שני סוגי צרכנים: ותיקים ועולים חדשים. הממשלה רוצה לעודד עלייה ולכן נותנת סובסידיה לכל מכונית הנרכשת ע"י העולים החדשים. ידוע שגמישות הביקוש של העולים החדשים היא גדולה מיחידתית וגמישות הביקוש של הוותיקים היא קטנה מיחידתית. כתוצאה מכך:
- המחיר לוותיקים יעלה, והוצאותיהם על המוצר יקטנו.
 - הוצאות העולים החדשים על מכוניות יגדלו וגם הוצאות הוותיקים יגדלו.
 - מחיר המכוניות לעולים החדשים ירד וגם המחיר לוותיקים ירד.
 - הכמות הכוללת הנרכשת בשוק תגדל בדיוק כמו הכמות הנרכשת ע"י העולים החדשים.

תשובות סופיות:

ב' (5)	ב' (4)	ג' (3)	ד' (2)	ג' (1)
ד' (10)	ב' (9)	א' (8)	א' (7)	ב' (6)
ג' (15)	ג' (14)	א' (13)	ד' (12)	ב' (11)
ב' (20)	ב' (19)	א' (18)	ד' (17)	א' (16)
ג' (25)	ד' (24)	ד' (23)	ג' (22)	ב' (21)
ב' (30)	א' (29)	א' (28)	ב' (27)	ד' (26)
ג' (35)	ד' (34)	ג' (33)	ב' (32)	ב' (31)
ג' (40)	ד' (39)	א' (38)	ג' (37)	ב' (36)
ב' (45)	ג' (44)	ד' (43)	ג' (42)	ב' (41)

יסודות הכלכלה מיקרו

פרק 10 - התערבות ממשלה במשק פתוח - מתאים לתרגילים 11 ו 12

תוכן העניינים

1. כללי..... 39

משק פתוח:

שאלות:

- 1) ענף X במשק הישראלי פועל בתנאי תחרות משוכללת. עקומות הביקוש וההיצע רגילות. כעת המשק נפתח למסחר בינלאומי. מכאן ש:
- במשק יתפתח ייבוא, במידה והמחיר העולמי גבוה מהמחיר שהיה בשיווי משקל.
 - במשק יתפתח ייצוא במידה והמחיר העולמי נמוך מהמחיר שהיה בשיווי משקל.
 - המשק יישאר בשיווי המשקל המקורי ולא יתפתח ייצוא או ייבוא, במידה והמחיר העולמי שווה למחיר שהיה בשיווי משקל.
 - המשק יישאר בשיווי המשקל המקורי ולא יתפתח ייצוא או ייבוא, בכל מקרה.
- 2) ענף הספגטי במשק הישראלי פועל בתנאי תחרות משוכללת. עקומות הביקוש וההיצע רגילות. כעת המשק נפתח למסחר בינלאומי. ידוע שהמחיר העולמי שווה למחיר השורר בארץ. מכאן ש:
- במשק יתפתח ייבוא.
 - במשק יתפתח ייצוא במידה ובמקביל יחול שיפור טכנולוגי בייצור ספגטי בארץ.
 - במשק יתפתח ייצוא במידה ובמקביל תחול עלייה בשכר העבודה בייצור ספגטי בארץ.
 - במשק יתפתח ייצוא במידה ובמקביל תחול ירידה במחיר רוטב לספגטי (מוצר משלים).
- 3) שוק X פועל בתנאי תחרות משוכללת. ידוע שהביקוש למוצר X הוא: $P = 1000 - 2Q$. היצע המוצר הוא: $P = 200 + 2Q$. המשק נפתח כעת למסחר בינלאומי. המחיר העולמי של מוצר X הוא 700 ₪. מכאן ש:
- במשק יתפתח ייצוא של 100 יחידות והמחיר המקומי יהיה 700 ₪.
 - במשק יתפתח ייבוא של 100 יחידות והמחיר המקומי יהיה 700 ₪.
 - המשק יישאר בשיווי המשקל המקורי ולא יתפתח ייצוא או ייבוא.
 - חסרים נתונים נוספים כדי לקבוע מה יקרה בשיווי משקל.

- 4) שוק X פועל בתנאי תחרות משוכללת. ידוע שהביקוש למוצר X הוא : $P = 1000 - 2Q$. המשק נפתח כעת למסחר בינלאומי. המחיר העולמי של מוצר X הוא 500 ₪. ידוע שבמחיר זה, הצרכנים במשק מייבאים מחצית מהכמות שהם צורכים. כמו כן, נתון שעקומת ההיצע לינארית ויוצאת מראשית הצירים. מכאן נובע שמשוואת עקומת ההיצע היא :
- $P = Q$
 - $P = 2Q$
 - $P = 3Q$
 - $P = 4Q$
- 5) שוק X פועל בתנאי תחרות משוכללת. ידוע שהביקוש למוצר X הוא : $P = 1000 - 5Q$. היצע המוצר הוא : $P = 5Q$. המשק נפתח כעת למסחר בינלאומי. המחיר העולמי של מוצר X הוא 400 ₪. מכאן ש :
- במשק יתפתח ייבוא והכמות הנצרכת ע"י הצרכנים המקומיים תגדל ב-20%.
 - במשק יתפתח ייצוא והכמות המיוצרת ע"י היצרנים המקומיים תגדל ב-20 יחידות.
 - אם המחיר העולמי היה 550 ₪, לא היה מתפתח כל מסחר.
 - טענות א' וב' נכונות.
- 6) שוק X פועל בתנאי תחרות משוכללת. ידוע שהצרכנים מוציאים סכום קבוע בסך 500 ₪ על המוצר. עקומת ההיצע לינארית ויוצאת מראשית הצירים. המשק נפתח כעת למסחר בינלאומי. המחיר העולמי של מוצר X הוא 25 ₪. כמו כן נתון ש-75% מהכמות הנצרכת מיובאת מחו"ל. מכאן ש :
- אילו המשק היה נסגר למסחר בינלאומי, המחיר בשיווי משקל היה 60 ₪.
 - אם הצרכנים יחליטו להגדיל את הסכום שהם מוכנים להוציא על המוצר פי 2, הייבוא יגדל ב-15 יחידות.
 - שיפור טכנולוגי אצל היצרנים המקומיים יקטין את הייבוא, אך אינו יכול לגרום למצב של ייצוא.
 - אם הממשלה רוצה להפסיק את הייבוא, עליה להטיל מכס של 25 ₪.
- 7) מוצר נמכר בארץ ומיוצא לחו"ל. הממשלה שוקלת שלוש שיטות לעידוד הייצוא :
1. סובסידיה ליצרן.
 2. מס קניה על הצרכן.
 3. פרמיה לכל יחידה מיוצאת (סובסידיה לכל יחידה מיוצאת).
- א. הצרכנים יעדיפו את שיטות 1 ו-2 על פני שיטה 3.
 - ב. היצרנים יעדיפו את שיטות 1 ו-2 על פני שיטה 3.
 - ג. היצרנים אדישים בין שיטות 1 ו-3, ומעדיפים אותן על פני שיטה 2.
 - ד. הממשלה יכולה לשקול שיטה רביעית של נתינת סובסידיה לכל יחידה הנרכשת על ידי הצרכנים, כדי לעודד ייצוא.

- 8) נתונים שני משקים זהים בהם מתקיים ייבוא. במשק א' הוטל מס על הצרכן, ובמשק ב' הוטל מכס באותו גודל. מכאן ש:
- הכמות המיוצרת בשני המשקים זהה.
 - הייבוא יקטן באותה מידה בשני המשקים.
 - אילו במשק ב' הייתה ניתנת סובסידיה ליצרן באותו גודל, אזי הייבוא היה קטן באותה מידה בשני המשקים.
 - הייבוא במשק ב' יקטן יותר, והצרכנים בשני המשקים ירכשו אותה כמות.

- 9) נתונים שני משקים זהים בהם מתקיים ייצוא. ידוע שבמשק א', הממשלה נתנה X ש"ח סובסידיה לכל יחידה מיוצרת, ובמשק ב' הממשלה נתנה Y ש"ח סובסידיה לכל יחידה מיוצאת. בסופו של דבר גדל הייצוא בשני המשקים באותה מידה. מכאן ש:
- $Y < X$.
 - $X = Y$.
 - $Y > X$.
 - לא ניתן לדעת.

- 10) בשוק הפועל בתחרות משוכללת קיים ייצוא. הממשלה מחליטה לבטל פרמיה (סובסידיה) שניתנה לכל יחידה מיוצאת. כתוצאה מהחלטה זו:
- הכמות הנרכשת על ידי הצרכנים המקומיים תגדל ביותר מהירידה בייצוא.
 - הייצוא יקטן ביותר מהירידה בכמות המיוצרת.
 - הייצוא יקטן, אך לא תהיה השפעה על הצרכנים המקומיים.
 - אם במקום ביטול הפרמיה לכל יחידה מיוצאת, הממשלה הייתה מחליפה אותה בסובסידיה לכל יחידה מיוצרת באותו גודל, הוצאותיה על הסובסידיה היו קטנות.

- 11) מוצר X נמכר בעולם במחיר של \$10. שע"ח במשק הוא 5 ש"ח לדולר. המשק פתוח למסחר בינלאומי, אך ידוע שכאשר המשק סגור, המחיר בשווי משקל בארץ הוא 60 ש"ח. אין הוצאות הובלה למשק או מחוצה לו.
- במשק מתקיים ייבוא אשר ייפסק אם יחול פיחות של 10% בשע"ח.
 - אם הממשלה תבצע פיחות של 5% בשע"ח, יעלה המחיר ליצרנים המקומיים ותקטן הכמות המיוצאת.
 - אם קיימות הוצאות הובלה בסך 20 ש"ח, לא כדאי יהיה למשק לסחור עם העולם במוצר X, גם אם מחירו יעלה ל-\$13 או ירד ל-\$7.
 - פיחות של 20% יעלה את מחיר המוצר בארץ ובחו"ל.

- 12** בענף הנעליים והסנדלים (מוצרים תחליפיים) שוררת תחרות משוכללת. ידוע שבענף הנעליים מתקיים יבוא ובענף הסנדלים מתקיים ייצוא. כעת חל שיפור טכנולוגי בייצור סנדלים. כתוצאה מכך:
- א. ייבוא הנעליים יקטן, אך לא ייתכן שהכנסות יצרני הנעליים יקטנו.
 - ב. מחיר הסנדלים ירד, והייצוא יגדל.
 - ג. ייבוא הנעליים לא ישתנה.
 - ד. ייצוא הסנדלים יגדל, וייבוא הנעליים יקטן.
- 13** בענף X נתונות עקומות ההיצע: $P = 3Q$ והביקוש: $P = 100 - 2Q$. במצב המוצא, ידוע שהמשק פתוח לייצוא במחיר של 66 ₪. כתוצאה מעלייה בהכנסת הצרכנים גדל הביקוש שלהם למוצר, והם מוכנים לשלם 10 ₪ יותר עבור כל כמות.
- א. אם הממשלה מעוניינת לשמור על הייצוא באותה רמה כמו לפני השינוי בביקוש, עליה לתת ליצרנים סובסידיה של 12 ₪.
 - ב. אם הממשלה מעוניינת לשמור על הייצוא באותה רמה כמו קודם, עליה לתת פרמיה (סובסידיה) לייצוא בסך 6 ₪.
 - ג. הטלת מס על כל יחידה מיוצרת, לאחר השינוי בביקוש, אינה יכולה להביא למצב של ייבוא.
 - ד. אם בנוסף חלה עלייה בשכר העובדים בענף X, לא יתכן שהמשק יגיע למצב של ייבוא.
- 14** בענף Y מתקיים ייצוא ומכירה לשוק המקומי. ידוע שהביקוש המקומי קשיח לחלוטין. הממשלה מעוניינת להגדיל את הייצוא והיא שוקלת שתי שיטות:
1. סובסידיה לכל יחידה מיוצרת.
 2. סובסידיה לכל יחידה מיוצאת.
- א. הייצוא יגדל באותה מידה בשתי השיטות.
 - ב. הייצוא יגדל יותר בשיטה 2.
 - ג. הצרכנים אדישים בין שתי השיטות.
 - ד. הוצאות הממשלה תהיינה זהות בשתי השיטות.
- 15** במשק "האקדמיה" כל העקומות רגילות. בענף X מתקיים יבוא והממשלה מטילה מכס על ייבוא המוצר. כעת הממשלה שוקלת את הגדלת המכס על כל יחידה (הייבוא ימשך גם לאחר מכך).
- א. הכנסות הממשלה מהמכס יגדלו.
 - ב. הכנסות הממשלה מהמכס יקטנו.
 - ג. הכנסות הממשלה מהמס המוטל על מוצר Y (מוצר תחליפי ל-X) לא ישתנו.
 - ד. הפגיעה ברווחה בענף תתגבר.

- 16** במשק הישראלי מייצרים ומייצאים תפוזים. עלויות ההובלה לחו"ל חלות על יצואני המשק הישראלי. כתוצאה מירידת מחירי הדלק העולמי חלה ירידה במחירי ההובלה בין הארץ לחו"ל. כתוצאה מכך:
- המחיר לצרכן הישראלי יעלה והמחיר לצרכן בחו"ל גם יעלה.
 - המחיר של רכז תפוזים (מוצר שבו תפוזים הם חומר גלם) בארץ לא יושפע (הנחה: עקומות רגילות בענף זה).
 - גם אם הממשלה תיתן סובסידיה לצרכן בגובה השינוי בהוצאות ההובלה, עדיין יהיה גידול בכמות המיוצאת.
 - אם הוצאות ההובלה היו מתייקרות מאוד, יתכן והיה מתפתח ייבוא.
- 17** במשק הישראלי נוהגים לצפות בטלנובלות ובשעשועוני טלוויזיה. הטלנובלות מצולמות בארץ ואת השעשועונים רוכשים מחברות הפקה בחו"ל. על מנת לשפר את מצב השחקנים בארץ הטילו מכס על רכישת שעשועונים מחו"ל. התברר שכתוצאה מצעד זה קטנה הצפייה בטלנובלות. מכאן ש:
- טלנובלות הן מוצר משלים לשעשועונים.
 - טלנובלות הן מוצר תחליפי לשעשועונים.
 - טלנובלות הן מוצר ניטראלי לשעשועונים.
 - לא ניתן לומר בוודאות מה הקשר בין השניים.
- 18** מוצר X מיוצר בארץ וגם ומיובא מחו"ל במחיר של \$10 ליחידה. מוצר Y מיוצר ונמכר בארץ בלבד. ידוע ששני המוצרים משלימים. כעת חלה ירידה בשער החליפין של הדולר. מכאן ש:
- ייבוא מוצר X יגדל ורווחי היצרנים בשני הענפים יגדלו.
 - הכמות הנרכשת ע"י הצרכנים בשני הענפים תגדל.
 - מחיר המוצר בשני הענפים ירד.
 - הביקוש המקומי יגדל בשני הענפים (עקומת הביקוש תזוז ימינה ולמעלה).
- 19** מוצר X מיוצר בארץ וגם מיובא מחו"ל. מוצר Y מיוצר בארץ ונמכר בארץ ובחו"ל. הניחו שהייבוא והייצוא של המוצרים יימשכו גם לאחר השינויים. ידוע ששני המוצרים תחליפיים. כעת חלה ירידה בביקוש העולמי למוצר Y. כתוצאה מכך:
- ייצוא מוצר Y וייבוא מוצר X יקטנו.
 - הכמות הנרכשת ע"י הצרכנים בשני הענפים תגדל.
 - מחיר המוצר בשני הענפים ירד.
 - הביקוש המקומי יקטן בשני הענפים (עקומת הביקוש תזוז שמאלה ולמטה).

- (20)** מוצר X מיוצר ונמכר בארץ ללא ייבוא או ייצוא מחו"ל. מוצר Y אינו מיוצר בארץ ומיובא מחו"ל בלבד. במצב המוצא, מוטל על ייבוא מוצר Y מכס. ידוע ששני המוצרים משלימים. כעת הממשלה נותנת סובסידיה בסך 5 ₪ ליצרני מוצר X . כתוצאה מכך:
- ייבוא מוצר Y יגדל, אך לא ניתן לדעת מה יקרה להכנסות הממשלה מהמכס.
 - הכמות הנרכשת ע"י הצרכנים בשני הענפים תגדל.
 - מחיר המוצר בענף X יעלה בפחות מ-5 ₪ ובענף Y המחיר יעלה בגודל מסוים.
 - טענות ב' וג' נכונות.
 - כל הטענות האחרות אינן נכונות.

- (21)** המחיר של ק"ג תפוזים בישראל ובספרד זהה. עקומות ההיצע והביקוש בשתי המדינות רגילות וזהות. ידוע שהמשק הישראלי סגור ואילו המשק הספרדי פתוח לייבוא וייצוא, אך בשיווי המשקל הנוכחי אין בו כל מסחר עם מדינות אחרות. בשני המשקים החליטה הממשלה לתת ליצרנים סובסידיה של 5 ₪ לכל ק"ג תפוזים שהם מוכרים. להלן מספר טענות:
- הוצאות הממשלה על הסובסידיה תהיינה גדולות יותר בספרד.
 - רווחי היצרנים יגדלו באותה המידה בשתי המדינות.
 - מצב הצרכנים ישתפר בשתי המדינות.
 - במשק הספרדי יתחילו לייצא תפוזים וימכרו פחות לצרכנים המקומיים.

- (22)** מוצרים X ו- Y הם מוצרים תחליפיים. במשק שוררת תחרות משוכללת. ידוע שבענף X אין מסחר בינלאומי ובענף Y מתקיים ייצוא, שעליו הממשלה נותנת פרמיה לכל יחידה מיוצאת. כעת הממשלה קובעת מחיר מינימום בענף X ושומרת עליו ע"י קניית עודפי ההיצע. כתוצאה מכך:
- רווחי היצרנים בשני הענפים יגדלו.
 - עודף הצרכנים בשני הענפים יקטנו.
 - ייצוא מוצר Y יגדל.
 - הוצאות הממשלה על הפרמיה ליצרני מוצר Y יקטנו.

- (23)** המשק מייבא את מוצר X במחיר העולמי, שבו ניתן לקנות כל כמות מן המוצר. ידוע שהפער בין המחיר העולמי למחיר השורר בשיווי משקל כאשר המשק סגור הוא 10 ₪. הממשלה מעוניינת לבטל את הייבוא ושוקלת שתי דרכים:
- הטלת מכס בסך 10 ₪ ליחידה מיובאת.
 - נתינת סובסידיה ליצרנים על כל יחידה מיוצרת בסך X ₪.

להלן מספר טענות:

- שיטה 1 תגרום לביטול הייבוא והיא מועדפת ע"י היצרנים והצרכנים.
- הסובסידיה בשיטה 2 צריכה להיות גבוהה מ-10 ₪ ורווחי היצרנים יהיו גבוהים יותר מאשר בשיטה 1.
- הכמות המיוצרת ע"י היצרנים תהיה זהה בשתי השיטות.
- הכמות הנצרכת ע"י הצרכנים תהיה זהה בשתי השיטות.

- 24** במשק קיים ייבוא של מוצר X. ההיצע של היצרנים בחו"ל גמיש לחלוטין במחיר הבינלאומי. עקומות ההיצע המקומית עולה משמאל לימין ועקומת הביקוש המקומית יורדת משמאל לימין. הניחו שהייבוא נמשך גם לאחר השינויים שיתוארו בטענות. להלן מספר טענות:
- אם יחול שיפור טכנולוגי בייצור המקומי, יצטמצם הייבוא וירד המחיר המקומי.
 - אם הממשלה תטיל מס קנייה על הצרכנים המקומיים, יצטמצם הייבוא, המחיר לצרכנים וליצרנים יעלה בגובה המס.
 - אם הממשלה תטיל מס על כל יחידה מיוצרת, יצטמצם הייבוא, המחיר ליצרנים ירד בגובה המס.
 - אם הממשלה תיתן סובסידיה לכל יחידה נצרכת, יגדל הייבוא והמחיר לצרכנים המקומיים יירד בגובה הסובסידיה.
- 25** בשוק הפועל בתחרות משוכללת קיים ייצוא. הממשלה מחליטה לבטל פרמיה שניתנה לכל יחידה מיוצאת ולהחליף אותה בסובסידיה ליצרן בגודל הפרמיה. כתוצאה מהחלטה זו:
- הכמות הנרכשת על ידי הצרכנים המקומיים תגדל ביותר מהירידה בייצוא.
 - הייצוא יקטן, והכמות המיוצרת ע"י היצרנים תגדל.
 - הייצוא יקטן, אך לא תהיה השפעה על הצרכנים המקומיים.
 - אם במקום סובסידיה ליצרן, הממשלה הייתה מחליפה את הפרמיה במס קנייה, המוטל על הצרכנים, אז מצב הצרכנים לא היה משתנה.
- 26** המשק מייבא את מוצר X במחיר העולמי. ידוע שהפער בין המחיר העולמי למחיר השורר בשיווי משקל כאשר המשק סגור הוא 100 ₪. הממשלה רוצה לצמצם את הייבוא ושוקלת שתי דרכים:
1. הטלת מכס בסך 120 ₪ לכל יחידה מיובאת.
 2. הטלת מס קנייה בסך 120 ₪ לכל יחידה נצרכת.
- להלן מספר טענות:
- בדרך הראשונה, המחיר בארץ יעלה למחיר שיווי משקל המקומי והייבוא יתבטל.
 - בדרך השנייה, המחיר לצרכן יעלה ב-120 ₪, והייבוא יתבטל.
 - בדרך השנייה, המחיר לצרכן יעלה לשיווי משקל המקורי, והייבוא יתבטל.
 - ד. טענות א' וב' נכונות.

- 27** נתונים שני משקים זהים בהם מתקיים ייצוא. במשק א' הממשלה הטילה מס קנייה בסך 5 ₪ על הצרכן, ובמשק ב' נתנה הממשלה סובסידיה בסך 5 ₪ על כל יחידה מיוצרת. ידוע שגמישות הביקוש וגמישות ההיצע יחידתיות. מכאן ש:
- הייצוא יגדל באותה מידה בשני המשקים.
 - הייצוא יגדל יותר במשק א'.
 - אילו היה ייבוא בשני המשקים, אז הייבוא היה קטן באותה מידה בשניהם לאחר פעולות הממשלה.
 - הצרכנים והיצרנים מושפעים באותה מידה משתי הפעולות.

- 28** בענף החולצות יש עקומות היצע וביקוש רגילות. בענף סגור לייבוא וייצוא והמחיר בשיווי משקל הוא 20 ₪. הממשלה רוצה לסייע ליצרנים להגדיל את רווחיהם ולכן שוקלת שלוש דרכים:
- קביעת מחיר מינימום של 25 ₪ ושמירה עליו ע"י סובסידיה מתאימה.
 - פתיחת המשק לייבוא וייצוא. ידוע שהמחיר העולמי הוא 25 ₪.
 - נתינת סובסידיה של 5 ₪ לכל יחידה מיוצרת.

להלן מספר טענות:

- היצרנים יעדיפו את שתי הדרכים הראשונות.
- מצב היצרנים ישתפר באותה מידה בכל הדרכים.
- מצב הצרכנים ישתפר בכל הדרכים.
- הצרכנים יעדיפו את שתי הדרכים הראשונות.

- 29** במשק קיים ייבוא של מוצר X. ההיצע של היצרנים בחו"ל גמיש לחלוטין במחיר בינלאומי של 200 ₪. עקומות ההיצע והביקוש המקומיות רגילות. הכמות המיובאת היא 600 יחידות. בשיווי משקל של משק סגור, המחיר המקומי הוא 300 ₪. כעת חל שינוי במשק והממשלה מאפשרת לבעלי רישיונות ייבוא בלבד לייבא את המוצר ומגבילה את הייבוא ל-400 יחידות. מכאן ש:
- כל הטענות האחרות אינן נכונות.
 - רווחי היצרנים המקומיים לא ישתנו.
 - רווחי היבואנים יהיו בסך 40,000 ₪.
 - מצב הצרכנים המקומיים ישתפר.
 - המחיר המקומי לאחר השינוי 300 ₪.

- (30)** במשק קיים ייבוא של מוצר X. ההיצע של היצרנים בחו"ל גמיש לחלוטין במחיר בינלאומי של 2 ₪. ההיצע המקומי נתון ע"י הפונקציה: $P = 0.01Q$ והצרכנים המקומיים מוציאים תמיד סכום קבוע של 1,000 ₪ לרכישת מוצר X. הממשלה מעוניינת לצמצם את הייבוא ב-50% ושוקלת שתי שיטות:
1. הטלת מכס על כל יחידה מייובאת.
 2. נתינת סובסידיה לכל יחידה מיוצרת.

להלן מספר טענות:

- א. גובה המכס הדרוש הוא 0.5 ₪ וגובה הסובסידיה הדרושה היא 1 ₪.
- ב. הכנסות הממשלה מהמכס יהיו 200 ₪.
- ג. הוצאות הממשלה על הסובסידיה תהיינה 525 ₪.
- ד. כל הטענות האחרות אינן נכונות.

- (31)** דיו ומדפסות הם מוצרים משלימים. דיו מיוצר ונמכר בארץ בלבד. מדפסות מיוצרות בארץ וגם מייובאות מחו"ל. בשני הענפים, הביקוש המקומי יורד משמאל לימין וההיצע המקומי עולה משמאל לימין. ההיצע העולמי של המדפסות גמיש לחלוטין. במצב המוצא מוטל מכס על כל מדפסת שמייובאת. כעת ידוע ששכר הפועלים בייצור מדפסות בעולם עלה. מכאן ש:
- א. הכנסות הממשלה מהמכס יגדלו.
 - ב. רווחי יצרני הדיו יגדלו.
 - ג. רווחי יצרני המדפסות המקומיים יגדלו.
 - ד. טענות א' וג' נכונות.

- (32)** להלן נתוני הביקוש וההיצע המקומיים לנגן מוסיקה:

מחיר ב-₪	כמות מבוקשת	כמות מוצעת
300	1000	2500
280	1200	2200
260	1400	1900
240	1600	1600
220	1800	1300
200	2000	1000
180	2200	700

- המשק פתוח והמחיר העולמי הוא 200 ₪. איזו מן הטענות הבאות אינה נכונה:
- א. במשק מתקיים ייבוא של 1000 יחידות.
 - ב. אם הממשלה תטיל מכס של 20 ₪ ליחידה, אז הייבוא יצטמצם ב-50% והכנסותיה מהמכס יהיו 10,000 ₪.
 - ג. אם הממשלה תטיל מס קנייה של 20 ₪ ליחידה, אז הייבוא יצטמצם ב-20% והכנסותיה מהמס יהיו 36,000 ₪.
 - ד. אם הממשלה תיתן סובסידיה בסך 40 ₪ לכל יחידה מיוצרת, ייפסק הייבוא.

33 משק טזמניה הוא משק סגור, המייצר מזון וביגוד בעצמו. כלכלן טזמני בכיר הציע לפתוח את המשק לייבוא בגדים, מפני שמחירם העולמי נמוך יותר. הכלכלן טען שפתיחת המשק לייבוא יגדיל את רווחת הצרכנים ואת סך הרווחה במשק. שר האוצר טען שפתיחת המשק לייבוא יפגע ברווחת היצרנים.

- א. הכלכלן הבכיר צודק.
- ב. שר האוצר צודק.
- ג. שניהם צודקים.
- ד. שניהם טועים.

34 חשמל משמש לחימום וקירור בתים פרטיים וכן לייצור מוצרי אלקטרוניקה, הנמכרים בארץ ובחו"ל. לאחרונה שורר חוס כבד בארץ. מכאן ש:

- א. הייצוא של מוצרי אלקטרוניקה יצטמצם והכמות הנרכשת בארץ תקטן.
- ב. הייצוא של מוצרי אלקטרוניקה יצטמצם והכמות הנרכשת בארץ לא תשתנה.
- ג. ירד מחיר המוצרים המשלימים למוצרי האלקטרוניקה.
- ד. יירדו רווחי יצרני מוצרי האלקטרוניקה והמחיר בארץ יעלה.

35 במשק מגדלים פלפלים (מוצר X) וגמבות (מוצר Y) באמצעות גורם משתנה יחיד (עבודה). כמות העובדים המציעים את עצמם לעבודה עולה עם עלייה בשכר. הפלפלים נמכרים בחו"ל בלבד ואילו הגמבות נמכרות בארץ וחלקן מייבוא גם מחו"ל. להלן מספר טענות:

1. אם הממשלה תיתן פרמיה לכל פלפל מיוצא, יגדל הייבוא של הגמבות.
2. אם הממשלה תיתן סובסידיה לכל פלפל מיוצר, יגדל הייבוא של הגמבות.
3. אם הממשלה תיתן סובסידיה לכל גמבה מיוצרת, יגדל הייצוא של הפלפלים.

- א. רק טענה א' נכונה.
- ב. רק טענה ב' נכונה.
- ג. רק טענה ג' נכונה.
- ד. רק טענות א' וב' נכונות.
- ה. רק טענות א' וג' נכונות.

36 משק קירגיזיה הוא משק פתוח, אשר קיים בו ייבוא של ארונות במקביל לייצור מקומי שלהם. כלכלן קירגיזי בכיר הציע להטיל מכס על ייבוא ארונות. הכלכלן טען שהטלת מכס על ייבוא יקטין את רווחת הצרכנים, אך יגדיל את סך הרווחה במשק. שר התעשייה הביע דעתו וטען שהטלת מכס על ייבוא יגדיל את רווחת היצרנים המקומיים.

- א. הכלכלן הבכיר צודק.
- ב. שר התעשייה צודק.
- ג. שניהם צודקים.
- ד. שניהם טועים.

תשובות סופיות:

א' (5)	ד' (4)	א' (3)	ב' (2)	ג' (1)
ב' (10)	א' (9)	ד' (8)	ג' (7)	ד' (6)
ד' (15)	א' (14)	ב' (13)	ג' (12)	ב' (11)
ב' (20)	א' (19)	ב' (18)	א' (17)	ג' (16)
ד' (25)	ד' (24)	ב' (23)	ד' (22)	א' (21)
ג' (30)	א' (29)	א' (28)	ב' (27)	א' (26)
ד' (35)	ב' (34)	ג' (33)	ד' (32)	ג' (31)
				ב' (36)

יסודות הכלכלה מיקרו

פרק 11 - מונופול

תוכן העניינים

1. כללי (ללא ספר)

יסודות הכלכלה מיקרו

פרק 12 - השפעות חיצוניות

תוכן העניינים

1. כללי (ללא ספר)