

יסודות הכלכלה למערכות בריאות



$$\{\sqrt{x}\}^2$$



תוכן העניינים

1	1. עקומת תמורה ומסחר בינלאומי
5	2. פונקציית היצור והקצאת גורמי הייצור
9	3. הוצאות יצרן
12	4. שיווי משקל בתחרות משוכללת
18	5. משק פתוח ייבוא וייצוא
(ללא ספר)	6. התערבות ממשלה

יסודות הכלכלה למערכות בריאות

פרק 1 - עקומת תמורה ומסחר בינלאומי

תוכן העניינים

1. כללי 1

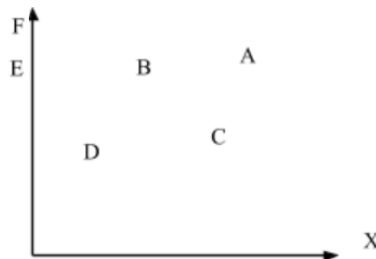
עקומת תמורה ומסחר בינלאומי:

שאלות:

- (1) להלן מספר טענות לגבי עקומת התמורה:
- עקומת התמורה תגדל (תצא החוצה) אם תקטן האבטלה במשק.
 - עקומת התמורה תגדל (תצא החוצה) אם המשק יעבור ממצב לא יעיל למצב יעיל.
 - עקומת התמורה תגדל (תצא החוצה) אם יחול שיפור טכנולוגי בייצור אחד המוצרים.
 - עקומת התמורה תגדל (תצא החוצה) יקטן מספר העובדים.
 - עקומת התמורה תגדל (תצא החוצה) אם המשק יקבל מענק מאחד המוצרים.

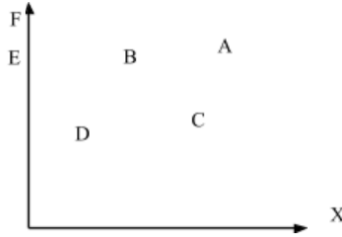
- (2) משק מייצר את מוצר X ומוצר Y באמצעות עובדים בלבד. להלן מספר טענות לגבי המשק כאשר הוא מייצר משני המוצרים ונמצא על עקומת התמורה:
- המשק מייצר באופן יעיל ולכן הגדלת הייצור של מוצר X מחייבת ויתור על מוצר Y.
 - ההוצאה האלטרנטיבית השולית לייצור כל אחד מן המוצרים יכולה להיות חיובית או אפס.
 - המשק מייצר באופן יעיל ולכן ניתן להגדיל את הייצור של מוצר אחד מבלי להקטין את הייצור של המוצר השני.
 - על מנת להגדיל ייצור מוצר X אפשר להעביר עובדים מייצור מוצר X לייצור מוצר Y.

- (3) להלן תרשים של עקומת תמורה ומספר נקודות הנמצאות ביחס מסוים לעקומה:



- להלן מספר טענות לגבי התרשים:
- הייצור בנקודה E אינו יעיל יותר מהייצור בנקודה B.
 - הייצור בנקודה A יעיל יותר מהייצור בנקודה B.
 - הייצור בנקודה C יעיל יותר מהייצור בנקודה B.
 - הייצור בנקודה D יעיל יותר מהייצור בנקודה B.

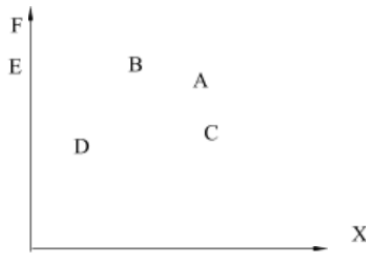
4) להלן תרשים של עקומת תמורה ומספר נקודות הנמצאות ביחס מסוים לעקומה:



להלן מספר טענות לגבי התרשים:

- ההוצאה האלטרנטיבית השולית לייצור מוצר X חיובית בנקודות D ו-E.
- ההוצאה האלטרנטיבית השולית לייצור מוצר X חיובית בנקודות B ו-C.
- במעבר מנקודה D לנקודה B, ניתן להגדיל את ייצור מוצר Y רק ע"י ויתור על מוצר X.
- במעבר מנקודה C לנקודה B, ההוצאה האלטרנטיבית השולית לייצור מוצר X גדלה.

5) להלן תרשים של עקומת תמורה ומספר נקודות הנמצאות ביחס מסוים לעקומה:



להלן מספר טענות לגבי התרשים:

- שיפור טכנולוגי בייצור מוצר X יכול לאפשר למשק לייצר בנקודה F.
- שיפור טכנולוגי בייצור מוצר Y לא יכול להביא לגידול בייצור שני המוצרים.
- אם, במצב המוצא, המשק מייצר בנקודה E, אזי שיפור טכנולוגי בייצור מוצר X לא יכול להביא לגידול בייצור שני המוצרים.
- מענק שהמשק מקבל ממוצר X יכול להביא את המשק לייצר בנקודה A.

6) להלן מספר טענות לגבי עקומת התמורה:

- גידול בכמות גורמי הייצור תגדיל בהכרח את עקומת התמורה.
- ייצור יעיל מחייב תעסוקה מלאה של כל גורמי הייצור.
- אם המשק נמצא על גבול אפשרויות הייצור הוא מייצר באופן יעיל.
- אם חלק מגורמי הייצור מובטלים, הרי שניתן להגדיל את התפוקה של מוצר אחד ללא ויתור על המוצר השני.

- (7) להלן מספר טענות לגבי עקומת התמורה של משק בעל גורם ייצור יחיד (עבודה). איזו מהטענות הבאות אינה נכונה:
- גידול בכמות גורמי הייצור תגדיל בהכרח את עקומת התמורה.
 - ייצור יעיל מחייב תעסוקה מלאה של כל גורמי הייצור.
 - אם המשק נמצא על גבול אפשרויות הייצור הוא מייצר באופן יעיל.
 - אם חלק מגורמי הייצור מובטלים, הרי שההוצאה האלטרנטיבית השולית לייצור יחידת מוצר נוספת היא חיובית.
- (8) משק מייצר את מוצר X ומוצר Y באמצעות עובדים בלבד. להלן מספר טענות:
- אם הכמויות המקסימליות שהמשק יכול לייצר משני המוצרים שוות, אזי ההוצאה האלטרנטיבית השולית לייצור מוצר X שווה 1.
 - אם המשק מייצר כמויות שוות משני המוצרים, אזי ההוצאה האלטרנטיבית השולית לייצור מוצר X שווה 1.
 - אם הכמויות המקסימליות שהמשק יכול לייצר משני המוצרים שוות, אזי ההוצאה האלטרנטיבית הממוצעת לייצור מוצר X שווה 1, אם המשק מייצר רק את מוצר X.
 - אם המשק מייצר כמויות שוות משני המוצרים, אזי ההוצאה האלטרנטיבית השולית לייצור מוצר X שווה 1, רק אם עקומת התמורה ליניארית.
- (9) במשק הישראלי מייצרים מוצרי מזון ומוצרי בידור. כעת החליטו להעביר חלק מן הפועלים מייצור מזון לייצור מוצרי בידור. התברר שתפוקת מוצרי הבידור גדלה בעוד תפוקת מוצרי המזון לא השתנתה. איזו מן הטענות הבאות המתייחסת למעבר הפועלים אינה נכונה:
- במצב המוצא, הייצור במשק לא היה יעיל.
 - התפוקה השולית של הפועלים שהועברו הייתה חיובית בשני המוצרים.
 - התפוקה השולית של הפועלים שהועברו הייתה חיובית בייצור מוצרי בידור ואפס בייצור מוצרי מזון.
 - ההוצאה האלטרנטיבית השולית לייצור מוצרי בידור הייתה אפס.
- (10) אם ידוע שהמשק מייצר תמיד כמויות חיוביות משני המוצרים ונמצא על עקומת התמורה, אזי:
- ההוצאה האלטרנטיבית השולית בייצור שני המוצרים גדולה מאפס.
 - אם בנוסף נתון שהמשק מייצר כמות שווה משני המוצרים, אזי ההוצאה האלטרנטיבית השולית שווה ל-1.
 - אם בנוסף נתון שחלק מגורמי הייצור אינם מועסקים, אזי המשק אינו מייצר ביעילות.
 - גידול בכמות של אחד מגורמי הייצור יביא בהכרח לגידול בכמות המיוצרת ממוצר Y.

- 11** משק מייצר את מוצר X ומוצר Y באמצעות עובדים בלבד. ידוע שהתפוקה השולית של העובדים קבועה בשני המוצרים. איזו מן הטענות הבאות אינה נכונה:
- עקומת התמורה של המשק ליניארית.
 - ההוצאה האלטרנטיבית השולית לייצור מוצר X קבועה ושווה להוצאה האלטרנטיבית השולית לייצור מוצר Y.
 - אם הכמויות המקסימליות שהמשק יכול לייצר משני המוצרים שוות, אזי ההוצאה האלטרנטיבית השולית לייצור מוצר X שווה 1.
 - ההוצאה האלטרנטיבית השולית לייצור מוצר X שווה להוצאה האלטרנטיבית הממוצעת לייצור מוצר X.

- 12** להלן מספר טענות לגבי עקומת התמורה:
- אם התפוקה השולית של גורם הייצור חיובית וקבועה בייצור שני המוצרים, עקומת התמורה תהיה ליניארית.
 - רק אם התפוקה השולית של גורם הייצור חיובית ופוחתת בייצור שני המוצרים, עקומת התמורה תהיה קמורה (רגילה).
 - אם קיימים שני גורמי ייצור שונים והתפוקה השולית של שני גורמי הייצור חיובית וקבועה בייצור שני המוצרים, עקומת התמורה תהיה קו שבור בעל שני קטעים.
 - רק טענה 1 נכונה.
 - רק טענה 2 נכונה.
 - רק טענה 3 נכונה.
 - טענות 1 ו-2 נכונות.

תשובות סופיות:

(1) ג'	(2) א'	(3) א'	(4) ב'	(5) ג'
(6) ג'	(7) ד'	(8) ג'	(9) ב'	(10) א'
(11) ב'	(12) א'			

יסודות הכלכלה למערכות בריאות

פרק 2 - פונקציית היצור והקצאת גורמי הייצור

תוכן העניינים

1. כללי 5

פונקציות ייצור בטבלה:

שאלות:

- (1)** להלן מספר טענות לגבי הקצאה יעילה (הניחו שחוק התפוקה שולית הפוחתת מתקיים):
- כדאי להעסיק פועל כל עוד תפוקתו השולית חיובית.
 - כדאי להעסיק פועל עד שתפוקתו השולית שווה אפס.
 - כדאי להעסיק פועל כל עוד תפוקתו השולית אינה פוחתת.
 - כדאי להעסיק פועל כל עוד תפוקתו השולית גבוהה או שווה לשכר שלו.
- (2)** להלן מספר טענות לגבי הקצאה יעילה (הניחו שחוק התפוקה שולית הפוחתת מתקיים):
- גידול במספר גורמי הייצור הקבועים (שדות) בלבד מקטין את התפוקה השולית שלהם ומגדיל את התפוקה השולית של גורם הייצור המשתנה (פועלים).
 - גידול במספר גורמי הייצור הקבועים (שדות) בלבד מגדיל את התפוקה השולית שלהם ומקטין את התפוקה השולית של גורם הייצור המשתנה (פועלים).
 - תפוקתו השולית של גורם הייצור הקבוע (שדה או מכונה) שווה לתפוקתו השולית של גורם הייצור המשתנה (פועלים).
 - כל הטענות אינן נכונות.
- (3)** משק מייצר באמצעות גורמי ייצור קבועים (שדות או מכונות) ובאמצעות גורמי ייצור משתנים (פועלים) בתנאי תפוקה שולית פוחתת. להלן מספר טענות:
- גידול במספר הפועלים יקטין את התפוקה הכוללת.
 - גידול במספר המכונות יקטין את התפוקה הכוללת.
 - גידול במספר המכונות והפועלים בו זמנית יקטין את התפוקה השולית של שניהם.
 - כל הטענות האחרות אינן נכונות.

4) להלן פונקציית הייצור של שדה חיטה המצוי בבעלותו של בעל שדה יחיד:

מספר פועלים	תפוקה כוללת בק"ג ביום עבודה
1	80
2	150
3	210
4	260
5	300
6	290

בעל השדה יכול להעסיק פועלים בשכר של 200 ₪ ליום. ק"ג חיטה נמכר בשוק החופשי בסך של 5 ₪ לק"ג. מכאן ש:

- כדאי לבעל השדה להעסיק 4 פועלים.
- רווחי בעל השדה יהיו 600 ₪ ליום עבודה.
- התפוקה השולית של הפועלים עולה ואחר כך פוחתת.
- ההוצאה השולית לייצור ק"ג חיטה עולה עם גידול בתפוקה.

5) בקיבוץ חרמש יש 10 שדות מסוג א' ו-10 שדות מסוג ב'. בכל שדה ניתן לגדל חיטה בלבד. להלן יכולת הייצור של כל שדה בשנה חקלאית. בקיבוץ יש 50 חברים המסוגלים לעבוד בשדות.

מספר פועלים	שדה א' – תפוקה כוללת בטון	שדה ב' – תפוקה כוללת בטון
1	80	65
2	150	110
3	210	150
4	260	180
5	300	200
6	290	210

- התפוקה הכוללת של המשק היא 3,050 טון חיטה.
- התפוקה השולית של הפועלים היא 60 טון חיטה.
- אם מחיר טון חיטה שווה 50 ₪, אזי שכר הפועלים הוא 50 ₪.
- התפוקה השולית של שדה ב' הוא 20 טון חיטה.

- 6) בקיבוץ חרמש יש שדה אחד מסוג א', שדה אחד מסוג ב' ושדה אחד מסוג ג'. בכל שדה ניתן לגדל חיטה בלבד. להלן יכולת הייצור של כל שדה בשנה חקלאית. בקיבוץ יש 10 חברים המסוגלים לעבוד בשדות.

מספר פועלים	שדה א' – תפוקה כוללת בטון	שדה ב' – תפוקה כוללת בטון	שדה ג' – תפוקה כוללת בטון
0	0	0	0
1	80	65	72
2	150	110	120
3	210	150	150
4	260	170	160

חשבו את התפוקה השולית, הכוללת והממוצעת בכל סוג שדה בנפרד ובכל השדות יחד.

- 7) בקיבוץ חרמש יש 10 שדות מסוג א', 10 שדות מסוג ב' ו-10 שדות מסוג ג'. בכל שדה ניתן לגדל חיטה בלבד. להלן יכולת הייצור של כל שדה בשנה חקלאית. בקיבוץ יש 64 חברים המסוגלים לעבוד בשדות.

מספר פועלים	שדה א' – תפוקה כוללת בטון	שדה ב' – תפוקה כוללת בטון	שדה ג' – תפוקה כוללת בטון
0	0	0	0
1	80	65	72
2	150	110	120
3	210	150	150
4	260	170	160

חשבו את התפוקה השולית, הכוללת והממוצעת בכל סוג שדה בנפרד ובכל השדות יחד.

8) להלן פונקציית הייצור של מכונה לייצור נעליים כפונקציה של מספר הפועלים המועסקים בה בחודש עבודה :

מספר פועלים	תפוקה כוללת של זוגות נעליים
1	80
2	190
3	290
4	350
5	400
6	420

שכר פועל במשק הוא 7000 ₪ לחודש. מחיר נעליים בשוק הוא 100 ₪ לזוג. בעל המפעל שילם מראש בתחילת השנה שכר דירה חודשי בסך 2,000 ₪ לחודש. מכאן ש :

- א. התפוקה הכוללת תהיה 420 זוגות נעליים בחודש.
- ב. המפעל יעסיק 5 פועלים.
- ג. ההוצאה השולית לייצור זוג נעליים עולה כל הזמן.
- ד. רווחי בעל המפעל יהיו 6,000 ₪ לחודש.

תשובות סופיות :

- (1) ד'.
- (2) א'.
- (3) ד'.
- (4) ד'.
- (5) ד'.
- (6) שדה א' : שולית – 50, כוללת – 260, ממוצעת – 65.
שדה ב' : שולית – 40, כוללת – 150, ממוצעת – 50.
שדה ג' : שולית – 30, כוללת – 150, ממוצעת – 50.
כל השדות יחד : שולית – 30, כוללת – 560, ממוצעת – 56.
- (7) שדה א' : שולית – 50, כוללת – 2600, ממוצעת – 65.
שדה ב' : שולית – 65, כוללת – 650, ממוצעת – 50.
שדה ג' : שולית – 48, כוללת – 892, ממוצעת – 63.7.
כל השדות יחד : שולית – 48, כוללת – 4142, ממוצעת – 64.72.
- (8) ד'.

יסודות הכלכלה למערכות בריאות

פרק 3 - הוצאות יצרן

תוכן העניינים

1. כללי 9

הוצאות יצרן:

שאלות:

1 בעל גלידריה נהנה מהכנסות חודשיות של 20,000 ₪. הוצאות השכר לעובדים הן בסך 12,000 ₪ והוצאות חומרי הגלם הן בסך 2,000 ₪ לחודש. שכר הדירה החודשי הוא בסך 7,000 ₪ והחווזה נחתם לשנתיים וכל התשלום שולם מראש ללא אפשרות להחזר.

להלן מספר טענות:

א. בעל הגלידריה יחליט לייצר בטווח הקצר ובטווח הארוך.

ב. בעל הגלידריה יסגור אותה מיד.

ג. התייקרות של שכר העובדים יכולה לגרום לסגירת הגלידריה מיד.

ד. אין מספיק נתונים כדי לקבוע.

2 להלן מספר טענות לגבי יצרן המייצר תפוקה שבה רווחיו מקסימליים:

א. היצרן ממקסם את רווחיו בנקודה שבה העלות השולית שווה למחיר.

ב. היצרן ממקסם את רווחיו בנקודה שבה העלות הממוצעת שווה לעלות השולית.

ג. היצרן ממקסם את רווחיו בנקודה שבה העלות הממוצעת שווה למחיר.

ד. אם יעלה המחיר בשוק, יגדלו רווחי היצרן ותקטן העלות השולית.

3 נתונה פונקציית העלות הכוללת של פירמה תחרותית.

הניחו שמייצרים יחידות שלמות:

7	6	5	4	3	2	1	0	תפוקה - Q
210	178	153	131	110	91	71	60	סה"כ - TC

מחיר השוק הוא 25 ₪. מכאן ש:

א. הפירמה לא תייצר כלל.

ב. הפירמה תייצר 6 יחידות בטווח הקצר.

ג. הפירמה תייצר 7 יחידות בטווח הארוך והקצר.

ד. הפירמה שואפת שהרווח השולי יהיה מקסימלי ולכן היא תייצר 2 יחידות.

ה. הפירמה תהיה אדישה בין ייצור יחידה אחת לייצור 6 יחידות, מפני

שהעלות השולית זהה ושווה למחיר השוק בשני המקרים.

- 4) נתונה פונקציית העלות הכוללת של פירמה תחרותית. הניחו שמייצרים יחידות שלמות:

תפוקה - Q	0	1	2	3	4	5	6	7
סה"כ - TC	20	31	44	60	80	110	150	210

- מחיר השוק הוא 30 ₪. מכאן ש:
- הפירמה לא תייצר כלל.
 - הפירמה תייצר 6 יחידות בטווח הקצר.
 - הפירמה תייצר 5 יחידות בטווח הארוך והקצר.
 - הפירמה שואפת לפדיון מקסימלי ולכן היא תייצר 7 יחידות או יותר.

- 5) נתונה פונקציית העלות הכוללת של פירמה תחרותית המייצרת רהיטים. הניחו שמייצרים יחידות שלמות:

תפוקה - Q	0	1	2	3	4	5	6
סה"כ - TC	1000	1500	2500	3600	5000	7000	9900

- מחיר של רהיט הוא 1150 ₪. מכאן ש:
- הפירמה לא תייצר כלל.
 - הפירמה תייצר 3 יחידות כדי להקטין הפסדים.
 - הפירמה תייצר 5 יחידות בטווח הארוך והקצר.
 - הפירמה שואפת לפדיון מקסימלי ולכן היא תייצר 6 יחידות.

- 6) נתונה פונקציית העלות הכוללת של פירמה תחרותית המייצרת חולצות T. הניחו שמייצרים יחידות שלמות:

תפוקה - Q	0	10	20	30	40	50	60
סך עלות - TC	100	180	250	400	600	1000	1500

- מחיר של חולצה הוא 20 ₪. מכאן ש:
- הפירמה לא תייצר כלל.
 - הפירמה תייצר 40 יחידות כדי להקטין הפסדים.
 - הפירמה תייצר 40 יחידות בטווח הארוך והקצר.
 - הפירמה תייצר 50 יחידות בטווח הארוך והקצר והיא תהיה במצב מאוזן ללא הפסדים או רווחים.

תשובות סופיות:

(1) ג' (2) א' (3) ב' (4) ג' (5) ב' (6) ג'

יסודות הכלכלה למערכות בריאות

פרק 4 - שיווי משקל בתחרות משוכללת

תוכן העניינים

1. כללי 12

שיווי משקל בתחרות משוכללת:

שאלות:

- (1) איזה מהגורמים הבאים משפיע על עקומת הביקוש?
 א. שיפור טכנולוגי.
 ב. עלייה במחיר חומרי הגלם.
 ג. עלייה במחיר מוצר תחליפי.
 ד. גידול במספר היצרנים.
- (2) איזה מהגורמים הבאים משפיע על עקומת ההיצע של יצרן בודד?
 א. גידול בתפוקה השולית של הפועלים.
 ב. התייקרות של ההוצאות הקבועות.
 ג. ירידה במחיר מוצר משלים.
 ד. עלייה במחיר מוצר תחליפי.
 ה. גידול במספר היצרנים.
- (3) להלן מספר טענות על עקומת הביקוש. איזו מהן נכונה:
 א. אם הביקוש גמיש לחלוטין, אזי הצרכנים מוכנים לשלם מחיר קבוע עבור כל כמות.
 ב. אם הביקוש קשיח לחלוטין, אזי הצרכנים מוכנים לשלם מחיר קבוע עבור כל כמות.
 ג. אם הביקוש גמיש לחלוטין, אזי הצרכנים מוכנים לשלם סכום קבוע עבור כל כמות.
 ד. אם הביקוש בעל גמישות יחידתית, אזי הצרכנים מוכנים לקנות כמות קבועה בכל מחיר.
- (4) להלן מספר טענות על עקומת ההיצע. איזו מהן אינה נכונה:
 א. אם ההיצע גמיש לחלוטין, התפוקה השולית קבועה.
 ב. אם ההיצע גמיש לחלוטין, אזי היצרנים מוכנים להציע כמות מסוימת בכל מחיר.
 ג. אם ההיצע עולה משמאל לימין, אזי התפוקה השולית פוחתת.
 ד. אם ההיצע בעל גמישות יחידתית, אזי עקומת ההיצע ליניארית ויוצאת מראשית הצירים.
- (5) להלן מספר טענות על שיווי משקל תחרותי ועקומות הביקוש וההיצע. איזו מהן נכונה:
 א. גידול בהיצע מגדיל את הביקוש.
 ב. שיפור טכנולוגי מגדיל את ההיצע ואת הביקוש.
 ג. עלייה בשכר העבודה תגרום לתזוזה של ההיצע ולתנועה על הביקוש.
 ד. גידול בהכנסת הצרכנים עבורם המוצר נורמלי במקביל לשיפור טכנולוגי יכולים לגרום לירידת הכמות בשיווי משקל.

- 6) שינוי בענף X גרם לכך שהמחיר ירד והכמות לא השתנתה.
מה יכול להיות הסבר אפשרי לכך:
- א. עקומות הביקוש וההיצע רגילות.
 - ב. עקומת הביקוש רגילה ועקומת ההיצע קשיחה לחלוטין.
 - ג. עקומת הביקוש רגילה ועקומת ההיצע גמישה לחלוטין.
 - ד. עקומת הביקוש גמישה לחלוטין ועקומת ההיצע רגילה.
- 7) בענף X חלו שינויים שהביאו להתייקרות המוצר ולירידה בכמות הנמכרת.
אלו מהמקרים הבאים יכול להסביר את השינוי:
1. אם שכר הפועלים מתייקר, ומחיר מוצר משלים מתייקר.
 2. אם שכר הפועלים מתייקר, ומחיר מוצר משלים מוזל.
 3. אם שכר הפועלים מוזל, ומחיר מוצר משלים מתייקר.
- א. רק מקרה 1 יכול להסביר את השינוי.
 - ב. רק מקרה 2 יכול להסביר את השינוי.
 - ג. רק מקרים 1,2 יכולים להסביר את השינוי.
 - ד. כל המקרים יכולים להסביר את השינוי.
- 8) משק מייצר שני מוצרים (X ו-Y). במצב הנוכחי תפוקתם השולית של העובדים בענף Y היא 500 יחידות, ובענף X היא 400 יחידות. מחירו של מוצר Y הוא 6 ₪ ושל מוצר X הוא 5 ₪.
- א. המשק מצוי בשיווי משקל תחרותי.
 - ב. לקבלת שיווי משקל תחרותי יעברו עובדים מענף X לענף Y.
 - ג. אם מחירו של מוצר Y ירד ל-3.5 ₪, יעברו עובדים מענף X לענף Y.
 - ד. אם מחירו של מוצר X יעלה ל-7.5 ₪, יעברו עובדים מענף X לענף Y.
- 9) מוצר X נסחר בתחרות משוכללת. עקומות ההיצע והביקוש רגילות.
בזכות עלייה ברמת הכנסותיהם החליטו הצרכנים להוציא סכום כפול על רכישת מוצר X.
- א. מחיר המוצר בשיווי משקל יוכפל.
 - ב. הכמות בשיווי משקל תוכפל.
 - ג. אם עקומת ההיצע הייתה קשיחה לחלוטין, מחיר המוצר בשיווי משקל היה מוכפל.
 - ד. אם עקומת ההיצע הייתה ליניארית ויוצאת מראשית הצירים, רווחי היצרן היו גדלים פי 4.

- (10)** מוצר X נסחר בתחרות משוכללת. עקומות ההיצע והביקוש רגילות. בזכות עליה ברמת הכנסותיהם החליטו הצרכנים להגדיל את רכישת מוצר X ב-500 יחידות בכל רמת מחיר. במקביל הצטרפו למשק יצרנים נוספים שהגדילו את הכמות המוצעת ב-400 יחידות בכל רמת מחיר.
- מחיר המוצר בשיווי משקל יעלה.
 - הכמות בשיווי משקל תגדל ב-500 יחידות.
 - הכמות בשיווי משקל תגדל ב-400 יחידות.
 - מחיר המוצר בשיווי משקל ירד.
- (11)** מוצר X נסחר בתחרות משוכללת. עקומות ההיצע והביקוש רגילות. הממשלה מוכנה לרכוש מהיצרנים 300 יחידות מוצר X, במחיר שלא יעלה על המחיר הקיים בשיווי המשקל המקורי, לפני כניסת הממשלה. במקביל חל שיפור טכנולוגי, המאפשר ליצרנים להגדיל את הכמות המוצעת ב-150 יחידות בכל רמת מחיר.
- מחיר המוצר בשיווי משקל יעלה.
 - הכמות בשיווי משקל תגדל ב-300 יחידות.
 - הכמות בשיווי משקל תגדל ב-150 יחידות.
 - מחיר המוצר בשיווי משקל ירד.
- (12)** מוצר X נסחר בתחרות משוכללת. עקומות ההיצע והביקוש רגילות. כעת נוספו צרכנים נוספים המעוניינים לרכוש 100 יחידות במחיר שלא יעלה על המחיר הקיים בשיווי המשקל המקורי. במקביל נוספו למשק יצרנים נוספים שהגדילו את הכמות המוצעת ב-150 יחידות בכל רמת מחיר.
- מחיר המוצר בשיווי משקל יעלה.
 - הכמות בשיווי משקל תגדל ב-100 יחידות.
 - הכמות בשיווי משקל תגדל ב-150 יחידות.
 - מחיר המוצר בשיווי משקל ירד.
- (13)** יצרן מוצר X פועל בתחרות משוכללת. ידוע שהיצרן מציע 1,000 יחידות. כעת חלה עלייה של 8 ₪ במחיר המוצר.
- רווחי היצרן יגדלו ב-8,000 ₪.
 - רווחי היצרן יגדלו ביותר מ-8,000 ₪.
 - אם ידוע שבשיווי משקל החדש, היצרן מוכר 1,200 יחידות, הרי שרווחו יגדלו ב-9,600 ₪.
 - אם היצרן היה בהפסד במצב המוצא, הרי שכעת הוא יעבור לרווח.

- 14** מחיר מוצר X ירד ומחיר מוצר Y עלה.
מה מהמקרים הבאים יכול להסביר את השינויים:
- המוצרים תחליפיים, וחל שיפור טכנולוגי בייצור מוצר X.
 - המוצרים תחליפיים, וחלה עלייה בהכנסת הצרכנים.
 - המוצרים תחליפיים, וחלה התייקרות במחיר חומר הגלם של מוצר X.
 - המוצרים משלימים, וחל שיפור טכנולוגי בייצור מוצר X.
- 15** ירידה במחירי ביטוח הרכב השפיעה על שיווי המשקל בשוק המכוניות הפרטיות ועל שיווי המשקל בשוק הנסיעות במוניות (מוצר תחליפי לרכב פרטי).
מה תהיה ההשפעה?
- מחירי הרכבים הפרטיים ומחירי הנסיעה במוניות יעלו.
 - מספר הרכבים הפרטיים ומספר הנסיעות במוניות יעלו.
 - מחירי הרכבים הפרטיים יעלו ומחירי הנסיעה במוניות ירדו.
 - לא ניתן לדעת בוודאות מה יקרה בשוק הנסיעות במוניות.
- 16** להלן מספר טענות לגבי גמישות עקומות הביקוש וההיצע:
- עקומת ביקוש גמישה לחלוטין פירושה צריכה של כמות קבועה מן המוצר.
 - עקומת ביקוש קשיחה לחלוטין פירושה צריכה של כמות קבועה מן המוצר.
 - אם עקומת ההיצע ליניארית ויוצאת מראשית הצירים, אזי גמישות ההיצע יחידתית וההוצאות המשתנות של היצרן שוות למחצית הפדיון שלו.
- רק טענה 1 נכונה.
 - רק טענה 2 נכונה.
 - רק טענה 3 נכונה.
 - יש לפחות שתי טענות נכונות.
- 17** בשוק מוצר X חלו השינויים הבאים:
- הכנסת הצרכנים ירדה והמוצר נחות עבורם.
 - שכר העבודה של הפועלים בייצור X עלה.
- איזה מהשינויים הבאים אינו אפשרי:
- מחיר מוצר X עלה.
 - מחיר מוצר X ירד.
 - הכמות הנמכרת ממוצר X גדלה.
 - הכמות הנמכרת ממוצר X קטנה.

(18) בשוק מוצר X חלו השינויים הבאים :

- הכנסת הצרכנים עלתה והמוצר נורמלי עבורם.
- שכר העבודה של הפועלים בייצור X ירד.

איזה מהשינויים הבאים אינו אפשרי :

- א. מחיר מוצר X עלה.
- ב. מחיר מוצר X ירד.
- ג. הכמות הנמכרת ממוצר X גדלה.
- ד. הכמות הנמכרת ממוצר X קטנה.

(19) בשוק מוצר X חלו השינויים הבאים :

- מוצר תחליפי למוצר X הוזל בזכות עלייה בהיצע שלו.
- חל שיפור טכנולוגי בייצור מוצר X.

איזה מהשינויים הבאים אינו אפשרי :

- א. מחיר מוצר X עלה.
- ב. מחיר מוצר X ירד.
- ג. הכמות הנמכרת ממוצר X גדלה.
- ד. הכמות הנמכרת ממוצר X קטנה.

(20) בשוק הגלידה חלו השינויים הבאים :

- פירות משומרים שהם מוצר משלים לגלידה התייקרו עקב ירידה בהיצע שלהם.
- חלה התייקרות בעלות החלב (חומר הגלם בייצור גלידה).

איזה מהשינויים הבאים אינו אפשרי :

- א. מחיר מוצר X עלה.
- ב. מחיר מוצר X ירד.
- ג. הכמות הנמכרת ממוצר X גדלה.
- ד. הכמות הנמכרת ממוצר X קטנה.

(21) בשוק הנעליים יש עקומות היצע וביקוש רגילות.

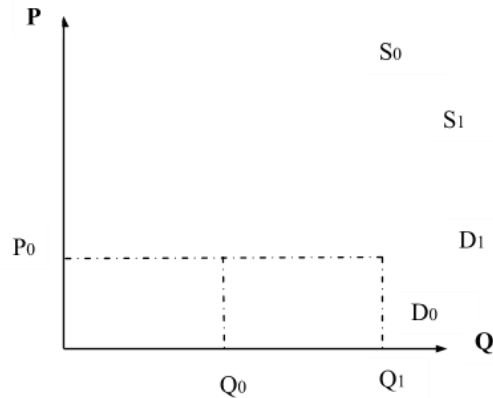
בשוק הנעליים חלו השינויים הבאים :

- הכנסת הצרכנים עלתה.
- עלה מחיר סוליות הנעליים.

ידוע שכתוצאה משינויים אלו ירד מחיר הנעליים. מכאן ש :

- א. נעליים הם מוצר נורמלי עבור הצרכנים.
- ב. נעליים הם מוצר ניטראלי עבור הצרכנים.
- ג. נעליים הם מוצר נחות עבור הצרכנים.
- ד. לא ניתן לדעת אם הנעליים הם מוצר נורמלי, ניטראלי או נחות, ללא מידע על הכמות.

22) נתון התרשים הבא:



עקומות ההיצע והביקוש הראשוניות הן: S_0 , D_0 . ואילו לאחר השינוי, עקומות

ההיצע והביקוש הן: S_1 , D_1 .

מהו ההסבר האפשרי לשינויים המוצגים בתרשים:

- א. חל שיפור טכנולוגי בייצור המוצר.
- ב. חל שיפור טכנולוגי בייצור המוצר ובמקביל חלה עלייה במחיר מוצר תחליפי.
- ג. חלה עלייה בהכנסת הצרכנים ובמקביל חלה עלייה בעלות חומרי הגלם.
- ד. חלה ירידה במחיר מוצר משלים ובמקביל חלה עלייה בשכר העובדים בענף זה.

תשובות סופיות:

ג' (5)	א' (4)	א' (3)	א' (2)	ג' (1)
א' (10)	ג' (9)	ב' (8)	ג' (7)	ב' (6)
ג' (15)	ד' (14)	ב' (13)	ד' (12)	ג' (11)
ג' (20)	א' (19)	ד' (18)	ב' (17)	ד' (16)
			ב' (22)	ג' (21)

יסודות הכלכלה למערכות בריאות

פרק 5 - משק פתוח ייבוא וייצוא

תוכן העניינים

1. כללי 18

משק פתוח:

שאלות:

- (1) ענף X במשק הישראלי פועל בתנאי תחרות משוכללת. עקומות הביקוש וההיצע רגילות. כעת המשק נפתח למסחר בינלאומי. מכאן ש:
- במשק יתפתח ייבוא, במידה והמחיר העולמי גבוה מהמחיר שהיה בשיווי משקל.
 - במשק יתפתח ייצוא במידה והמחיר העולמי נמוך מהמחיר שהיה בשיווי משקל.
 - המשק יישאר בשיווי המשקל המקורי ולא יתפתח ייצוא או ייבוא, במידה והמחיר העולמי שווה למחיר שהיה בשיווי משקל.
 - המשק יישאר בשיווי המשקל המקורי ולא יתפתח ייצוא או ייבוא, בכל מקרה.
- (2) ענף הספגטי במשק הישראלי פועל בתנאי תחרות משוכללת. עקומות הביקוש וההיצע רגילות. כעת המשק נפתח למסחר בינלאומי. ידוע שהמחיר העולמי שווה למחיר השורר בארץ. מכאן ש:
- במשק יתפתח ייבוא.
 - במשק יתפתח ייצוא במידה ובמקביל יחול שיפור טכנולוגי בייצור ספגטי בארץ.
 - במשק יתפתח ייצוא במידה ובמקביל תחול עלייה בשכר העבודה בייצור ספגטי בארץ.
 - במשק יתפתח ייצוא במידה ובמקביל תחול ירידה במחיר רוטב לספגטי (מוצר משלים).
- (3) שוק X פועל בתנאי תחרות משוכללת. ידוע שהביקוש למוצר X הוא: $P = 1000 - 2Q$. היצע המוצר הוא: $P = 200 + 2Q$. המשק נפתח כעת למסחר בינלאומי. המחיר העולמי של מוצר X הוא 700 ₪. מכאן ש:
- במשק יתפתח ייצוא של 100 יחידות והמחיר המקומי יהיה 700 ₪.
 - במשק יתפתח ייבוא של 100 יחידות והמחיר המקומי יהיה 700 ₪.
 - המשק יישאר בשיווי המשקל המקורי ולא יתפתח ייצוא או ייבוא.
 - חסרים נתונים נוספים כדי לקבוע מה יקרה בשיווי משקל.

- (4) שוק X פועל בתנאי תחרות משוכללת. ידוע שהביקוש למוצר X הוא: $P = 1000 - 2Q$. המשק נפתח כעת למסחר בינלאומי. המחיר העולמי של מוצר X הוא 500 ₪. ידוע שבמחיר זה, הצרכנים במשק מייבאים מחצית מהכמות שהם צורכים. כמו כן, נתון שעקומת ההיצע לינארית ויוצאת מראשית הצירים. מכאן נובע שמשוואת עקומת ההיצע היא:
- $P = Q$
 - $P = 2Q$
 - $P = 3Q$
 - $P = 4Q$
- (5) שוק X פועל בתנאי תחרות משוכללת. ידוע שהביקוש למוצר X הוא: $P = 1000 - 5Q$. היצע המוצר הוא: $P = 5Q$. המשק נפתח כעת למסחר בינלאומי. המחיר העולמי של מוצר X הוא 400 ₪. מכאן ש:
- במשק יתפתח ייבוא והכמות הנצרכת ע"י הצרכנים המקומיים תגדל ב-20%.
 - במשק יתפתח ייצוא והכמות המיוצרת ע"י היצרנים המקומיים תגדל ב-20 יחידות.
 - אם המחיר העולמי היה 550 ₪, לא היה מתפתח כל מסחר.
 - טענות א' וב' נכונות.
- (6) שוק X פועל בתנאי תחרות משוכללת. ידוע שהצרכנים מוציאים סכום קבוע בסך 500 ₪ על המוצר. עקומת ההיצע לינארית ויוצאת מראשית הצירים. המשק נפתח כעת למסחר בינלאומי. המחיר העולמי של מוצר X הוא 25 ₪. כמו כן נתון ש-75% מהכמות הנצרכת מיובאת מחו"ל. מכאן ש:
- אילו המשק היה נסגר למסחר בינלאומי, המחיר בשיווי משקל היה 60 ₪.
 - אם הצרכנים יחליטו להגדיל את הסכום שהם מוכנים להוציא על המוצר פי 2, הייבוא יגדל ב-15 יחידות.
 - שיפור טכנולוגי אצל היצרנים המקומיים יקטין את הייבוא, אך אינו יכול לגרום למצב של ייצוא.
 - אם הממשלה רוצה להפסיק את הייבוא, עליה להטיל מכס של 25 ₪.
- (7) מוצר נמכר בארץ ומיוצא לחו"ל. הממשלה שוקלת שלוש שיטות לעידוד הייצוא:
1. סובסידיה ליצרן.
 2. מס קניה על הצרכן.
 3. פרמיה לכל יחידה מיוצאת (סובסידיה לכל יחידה מיוצאת).
- הצרכנים יעדיפו את שיטות 1 ו-2 על פני שיטה 3.
 - היצרנים יעדיפו את שיטות 1 ו-2 על פני שיטה 3.
 - היצרנים אדישים בין שיטות 1 ו-3, ומעדיפים אותן על פני שיטה 2.
 - הממשלה יכולה לשקול שיטה רביעית של נתינת סובסידיה לכל יחידה הנרכשת על ידי הצרכנים, כדי לעודד ייצוא.

- 8) נתונים שני משקים זהים בהם מתקיים ייבוא. במשק א' הוטל מס על הצרכן, ובמשק ב' הוטל מכס באותו גודל. מכאן ש:
- הכמות המיוצרת בשני המשקים זהה.
 - הייבוא יקטן באותה מידה בשני המשקים.
 - אילו במשק ב' הייתה ניתנת סובסידיה ליצרן באותו גודל, אזי הייבוא היה קטן באותה מידה בשני המשקים.
 - הייבוא במשק ב' יקטן יותר, והצרכנים בשני המשקים ירכשו אותה כמות.
- 9) נתונים שני משקים זהים בהם מתקיים ייצוא. ידוע שבמשק א', הממשלה נתנה X ש"ח סובסידיה לכל יחידה מיוצרת, ובמשק ב' הממשלה נתנה Y ש"ח סובסידיה לכל יחידה מיוצאת. בסופו של דבר גדל הייצוא בשני המשקים באותה מידה. מכאן ש:
- $Y < X$.
 - $X = Y$.
 - $Y > X$.
 - לא ניתן לדעת.
- 10) בשוק הפועל בתחרות משוכללת קיים ייצוא. הממשלה מחליטה לבטל פרמיה (סובסידיה) שניתנה לכל יחידה מיוצאת. כתוצאה מהחלטה זו:
- הכמות הנרכשת על ידי הצרכנים המקומיים תגדל ביותר מהירידה בייצוא.
 - הייצוא יקטן ביותר מהירידה בכמות המיוצרת.
 - הייצוא יקטן, אך לא תהיה השפעה על הצרכנים המקומיים.
 - אם במקום ביטול הפרמיה לכל יחידה מיוצאת, הממשלה הייתה מחליפה אותה בסובסידיה לכל יחידה מיוצרת באותו גודל, הוצאותיה על הסובסידיה היו קטנות.
- 11) מוצר X נמכר בעולם במחיר של \$10. שע"ח במשק הוא 5 ש"ח לדולר. המשק פתוח למסחר בינלאומי, אך ידוע שכאשר המשק סגור, המחיר בשווי משקל בארץ הוא 60 ש"ח. אין הוצאות הובלה למשק או מחוצה לו.
- במשק מתקיים ייבוא אשר ייפסק אם יחול פיחות של 10% בשע"ח.
 - אם הממשלה תבצע פיחות של 5% בשע"ח, יעלה המחיר ליצרנים המקומיים ותקטן הכמות המיוצאת.
 - אם קיימות הוצאות הובלה בסך 20 ש"ח, לא כדאי יהיה למשק לסחור עם העולם במוצר X, גם אם מחירו יעלה ל-\$13 או ירד ל-\$7.
 - פיחות של 20% יעלה את מחיר המוצר בארץ ובחו"ל.

- 12** בענף הנעליים והסנדלים (מוצרים תחליפיים) שוררת תחרות משוכללת. ידוע שבענף הנעליים מתקיים יבוא ובענף הסנדלים מתקיים ייצוא. כעת חל שיפור טכנולוגי בייצור סנדלים. כתוצאה מכך:
- א. ייבוא הנעליים יקטן, אך לא ייתכן שהכנסות יצרני הנעליים יקטנו.
 - ב. מחיר הסנדלים ירד, והייצוא יגדל.
 - ג. ייבוא הנעליים לא ישתנה.
 - ד. ייצוא הסנדלים יגדל, וייבוא הנעליים יקטן.

תשובות סופיות:

(1) ג'	(2) ב'	(3) א'	(4) ד'	(5) א'
(6) ד'	(7) ג'	(8) ד'	(9) א'	(10) ב'
(11) ב'	(12) ג'			

יסודות הכלכלה למערכות בריאות

פרק 6 - התערבות ממשלה

תוכן העניינים

1. כללי (ללא ספר)