

חשבון דיפרנציאלי ואינטגרלי ב



תוכן העניינים

| | |
|-----|--|
| 1 | אינטגרלים מיידיים |
| 6 | אינטגרלים בשיטת "הנגזרת כבר בפנים" |
| 8 | אינטגרלים בשיטת אינטגרציה בחלקים |
| 12 | אינטגרלים בשיטת ההצבה |
| 15 | אינטגרלים של פונקציות רציונליות |
| 20 | האינטגרל המסוים, אינטגרליות לפי רימן |
| 33 | שימושי האינטגרל המסוים (שטח-אורך קשת) |
| 55 | המשפט היסודי של החדו"א |
| 58 | קווים ותחומים במישור, משטחים וגופים במרחב |
| 74 | פונקציות של מספר משתנים - מבוא, קווי גובה |
| 81 | גבולות ורציפות של פונקציות של מספר משתנים |
| 88 | נגזרות חלקיות |
| 96 | כלל השרשרת בפונקציות של מספר משתנים |
| 100 | נגזרת מכוונת וגרדיאנט |
| 105 | פונקציות סתומות - שימושים גיאומטריים |
| 108 | הדיפרנציאל השלם |
| 109 | פונקציות הומוגניות-משפט אוילר |
| 116 | קיצון ואוכף לפונקציה של שני משתנים |
| 118 | קיצון של פונקציה רבת משתנים (מתקדם) - ריבועים פחותים |
| 120 | קיצון של פונקציה של שני משתנים תחת אילוץ (כופלי לגראנז') |
| 123 | קיצון של פונקציה של שלושה משתנים תחת אילוצים |
| 125 | קיצון מוחלט של פונקציה בשני משתנים בקבוצה סגורה וחסומה |
| 126 | עקומת לורנץ ומדד ג'יני |

תוכן העניינים

24. המשתנה המקרי הרציף- התפלגויות כלליות (שימוש באינטגרלים).....128

חשבון דיפרנציאלי ואינטגרלי ב

פרק 1 - אינטגרלים מידיים

תוכן העניינים

1. אינטגרלים מידיים 1
2. מציאת פונקציה קדומה 4

אינטגרלים מידיים

שאלות

חשבו את האינטגרלים בשאלות 1-12 (פתירה על ידי הכלל: $\int x^n dx = \frac{x^{n+1}}{n+1} + c$):

$$\int \frac{1}{x^2} dx \quad (3) \qquad \int x^4 dx \quad (2) \qquad \int 4 dx \quad (1)$$

$$\int 4x^{10} dx \quad (6) \qquad \int \frac{1}{x\sqrt{x}} dx \quad (5) \qquad \int \sqrt{x} dx \quad (4)$$

$$\int (x^2 + 1)^2 dx \quad (9) \qquad \int \left(\frac{3}{x^4} + 2\sqrt[3]{x} \right) dx \quad (8) \qquad \int (2x^2 - x + 1) dx \quad (7)$$

$$\int \frac{x+1}{\sqrt{x}} dx \quad (12) \qquad \int \frac{1+2x^2+x^4}{x^2} dx \quad (11) \qquad \int (x^2+1)(x+2) dx \quad (10)$$

חשבו את האינטגרלים בשאלות 13-20:

(פתירה על ידי הכלל: $\int (ax+b)^n dx = \frac{(ax+b)^{n+1}}{a \cdot (n+1)} + c$):

$$\int \frac{4}{(x-2)^5} dx \quad (15) \qquad \int (x^2 - 2x + 1)^{10} dx \quad (14) \qquad \int (4x+1)^{10} dx \quad (13)$$

$$\int \frac{x}{(x-1)^4} dx \quad (18) \qquad \int \frac{10}{\sqrt{2x+4}} dx \quad (17) \qquad \int \sqrt[3]{4x-10} dx \quad (16)$$

$$\int \frac{xdx}{\sqrt{x+1}+1} \quad (20) \qquad \int \frac{dx}{\sqrt{x-1}-\sqrt{x}} \quad (19)$$

חשבו את האינטגרלים בשאלות 21-26:

(פתירה על ידי הכלל: $\int \frac{1}{ax+b} dx = \frac{\ln|ax+b|}{a} + c$):

$$\int \left(1 + \frac{1}{x} \right)^2 dx \quad (23) \qquad \int \frac{1+x+x^2}{x} dx \quad (22) \qquad \int \frac{1}{4x} dx \quad (21)$$

$$\int \frac{4x+1}{x+2} dx \quad (26) \qquad \int \frac{x+3}{x+2} dx \quad (25) \qquad \int \frac{1}{4x-1} dx \quad (24)$$

חשבו את האינטגרלים בשאלות 27-29 :

$$\left(\int e^{ax+b} dx = \frac{e^{ax+b}}{a} + c : \text{פתירה על ידי הכלל} \right)$$

$$\int \left(4\sqrt{e^x} + \frac{1}{\sqrt[3]{e^{4x}}} \right) dx \quad (29)$$

$$\int (e^{x+1})^2 dx \quad (28)$$

$$\int (e^{4x} + e^{-x}) dx \quad (27)$$

$$\int \frac{2^x + 4^{2x} + 10^{3x}}{5^x} dx : \text{חשבו את האינטגרל} \quad (30)$$

$$\left(\int a^{mx+n} dx = \frac{a^{mx+n}}{m \ln a} + c : \text{פתירה על ידי הכלל} \right)$$

חשבו את האינטגרלים בשאלות 31-33 :

$$\int \frac{x^2}{1-x^2} dx \quad (33)$$

$$\int \frac{1}{\sqrt{4-x^2}} dx \quad (32)$$

$$\int \frac{1}{1+4x^2} dx \quad (31)$$

תשובות סופיות

$$-\frac{1}{x} + c \quad (3) \qquad \frac{x^5}{5} + c \quad (2) \qquad 4x + c \quad (1)$$

$$\frac{4x^{11}}{11} + c \quad (6) \qquad -\frac{2}{\sqrt{x}} + c \quad (5) \qquad \frac{x^{1.5}}{1.5} + c \quad (4)$$

$$\frac{x^5}{5} + \frac{2x^3}{3} + x + c \quad (9) \qquad -\frac{1}{x^3} + \frac{3\sqrt[3]{x^4}}{2} + c \quad (8) \qquad \frac{2x^3}{3} - \frac{x^2}{2} + x + c \quad (7)$$

$$\frac{x^{1.5}}{1.5} + \frac{x^{0.5}}{0.5} + c \quad (12) \qquad -\frac{1}{x} + 2x + \frac{x^3}{3} + c \quad (11) \qquad \frac{x^4}{4} + \frac{2x^3}{3} + \frac{x^2}{2} + 2x + c \quad (10)$$

$$-\frac{1}{(x-2)^4} + c \quad (15) \qquad \frac{(x-1)^{21}}{21} + c \quad (14) \qquad \frac{(4x+11)^{11}}{44} + c \quad (13)$$

$$10\sqrt{2x+4} + c \quad (17) \qquad \frac{3}{16}\sqrt[3]{(4x-10)^4} + c \quad (16)$$

$$-\frac{2}{3}\left((x-1)^{\frac{3}{2}} + x^{\frac{3}{2}}\right) + c \quad (19) \qquad -\frac{1}{2(x-1)^2} - \frac{1}{3(x-1)^3} + c \quad (18)$$

$$\ln|x| + x + \frac{x^2}{2} + c \quad (22) \qquad \frac{\ln|x|}{4} + c \quad (21) \qquad \frac{2}{3}\sqrt{(x+1)^3} - x + c \quad (20)$$

$$x + \ln|x+2| + c \quad (25) \qquad \frac{\ln|4x-1|}{4} + c \quad (24) \qquad x + 2\ln|x| - \frac{1}{x} + c \quad (23)$$

$$\frac{e^{2x+2}}{2} + c \quad (28) \qquad \frac{e^{4x}}{4} - e^{-x} + c \quad (27) \qquad 4(x - 1.75\ln|x+2|) + c \quad (26)$$

$$\frac{\left(\frac{2}{5}\right)^x}{\ln\left(\frac{2}{5}\right)} + \frac{\left(\frac{16}{5}\right)^x}{\ln\left(\frac{16}{5}\right)} + \frac{(200)^x}{\ln(200)} + c \quad (30) \qquad 8e^{\frac{x}{2}} - \frac{3e^{-\frac{4x}{3}}}{4} + c \quad (29)$$

$$-\left(x - \frac{1}{2}\ln\left|\frac{1+x}{1-x}\right|\right) + c \quad (33) \qquad \arcsin\left(\frac{x}{2}\right) + c \quad (32) \qquad \frac{1}{2}\arctan(2x) + c \quad (31)$$

מציאת פונקציה קדומה

שאלות

- (1) נתונה הנגזרת הבאה: $f'(x) = 2x - \sqrt[3]{4x}$.
 ידוע כי הפונקציה עוברת בנקודה $(2,3)$.
 מצאו את הפונקציה.
- (2) נתונה הנגזרת הבאה: $f'(x) = \sqrt[3]{5x+7}$.
 ידוע כי הפונקציה חותכת את ציר ה- x בנקודה שבה $x=4$.
 מצאו את הפונקציה.
- (3) נתונה הנגזרת הבאה: $f'(x) = \frac{10}{\sqrt[5]{x+1}} + (x-1)^2$.
 ידוע כי הפונקציה חותכת את ציר ה- y בנקודה שבה $y=-6$.
 מצאו את הפונקציה.
- (4) נתונה נגזרת של פונקציה: $f'(x) = 2x - 6$.
 ערך הפונקציה בנקודת הקיצון שלה הוא 5.
 מצאו את הפונקציה.
- (5) נתונה נגזרת של פונקציה: $f'(x) = \sqrt{x+2} - \sqrt{x-1} + 2$.
 שיפוע המשיק לפונקציה, בנקודה שבה $y = 5\frac{2}{3}$, הוא 3.
 מצאו את הפונקציה.
- (6) נתונה הנגזרת השנייה של פונקציה: $f''(x) = 6x + 6$.
 שיפוע הפונקציה בנקודת הפיתול שלה הוא -12,
 וערך הפונקציה בנקודה זו הוא 1.
 מצאו את הפונקציה.
- (7) נתונה הנגזרת השנייה של פונקציה: $f''(x) = 1 + \frac{8}{x^3}$.
 המשיק לפונקציה בנקודת הפיתול שלה הוא הישר $y = -4$.
 מצאו את הפונקציה.

8 נתונה פונקציה $f: \mathbb{R} \rightarrow \mathbb{R}$ המקיימת $f(0) = 0$,

$$\text{ונתון בנוסף כי לכל } x_0 \text{ ממשי: } \lim_{x \rightarrow x_0} \frac{f(x) - f(x_0)}{x - x_0} = |x_0|$$

א. מצאו את תחומי הרציפות של הפונקציה.

ב. חשבו את הגבול הבא או קבעו שהוא אינו קיים $\lim_{x \rightarrow 0} f(x)$

ג. מצאו כמה נקודות חיתוך יש לגרף הפונקציה עם ציר ה- x .

ד. מצאו את כל נקודות הפיתול של הפונקציה.

ה. תהי $G(x)$ פונקציה קדומה של $|x|$.

חשבו את הנגזרת $(G(x) - f(x))'$.

תשובות סופיות

$$f(x) = x^2 - \frac{3}{16} \sqrt[3]{(4x)^4} + 2 \quad (1)$$

$$f(x) = \frac{3}{20} \sqrt[3]{(5x+7)^4} - 12 \frac{3}{20} \quad (2)$$

$$f(x) = 12 \frac{1}{2} \sqrt[5]{(x+1)^4} + \frac{1}{3} (x-1)^3 - 18 \frac{1}{6} \quad (3)$$

$$f(x) = x^2 - 6x + 14 \quad (4)$$

$$f(x) = \frac{2}{3} \sqrt{(x+2)^3} - \frac{2}{3} \sqrt{(x-1)^3} + 2x - 3 \quad (5)$$

$$f(x) = x^3 + 3x^2 - 9x - 10 \quad (6)$$

$$f(x) = \frac{1}{2} x^2 + \frac{4}{x} + 3x + 2 \quad (7)$$

8 א. רציפה לכל x . ב. $\lim_{x \rightarrow 0} f(x) = 0$. ג. נקודת חיתוך אחת $(0,0)$.

ד. נקודת פיתול אחת $(0,0)$. ה. 0

חשבון דיפרנציאלי ואינטגרלי ב

פרק 2 - אינטגרלים בשיטת "הנגזרת כבר בפנים"

תוכן העניינים

1. אינטגרלים בשיטת הנגזרת כבר בפנים.....6

אינטגרלים בשיטת "הנגזרת כבר בפנים"

שאלות

הערה: את האינטגרלים בפרק זה ניתן לפתור גם בעזרת שיטת ההצבה.

חשבו את האינטגרלים הבאים:

$$\int \frac{x^2}{x^3+1} dx \quad (3) \qquad \int \cot x dx \quad (2) \qquad \int \frac{2x}{x^2+1} dx \quad (1)$$

$$\int \frac{e^{x+2}}{e^x+1} dx \quad (6) \qquad \int \frac{1}{x \ln x} dx \quad (5) \qquad \int \tan x dx \quad (4)$$

$$\int e^{-2x^2} x dx \quad (9) \qquad \int \frac{e^{\tan x}}{\cos^2 x} dx \quad (8) \qquad \int e^{x^2} 2x dx \quad (7)$$

$$\int \frac{\cos(\ln x)}{x} dx \quad (12) \qquad \int \cos(\sin x) \cdot \cos x dx \quad (11) \qquad \int \cos(2x^2+1) \cdot 4x dx \quad (10)$$

$$\int \frac{\sin \sqrt{x}}{\sqrt{x}} dx \quad (15) \qquad \int \sin(x^2+1) x dx \quad (14) \qquad \int \cos(10x^4+1) x^3 dx \quad (13)$$

$$\int \frac{(\tan x)}{\cos^2 x} dx \quad (18) \qquad \int \frac{\arctan x}{1+x^2} dx \quad (17) \qquad \int \frac{\ln x}{x} dx \quad (16)$$

$$\int 2x\sqrt{x^2+1} dx \quad (21) \qquad \int \frac{\cos x}{\sqrt{2 \sin x}} dx \quad (20) \qquad \int \frac{2x}{\sqrt{x^2+1}} dx \quad (19)$$

$$\int \frac{\sqrt{\arctan x}}{1+x^2} dx \quad (24) \qquad \int \frac{\sqrt{\ln x}}{x} dx \quad (23) \qquad \int x^2 \sqrt{x^3+4} dx \quad (22)$$

תשובות סופיות

- | | | |
|---|---|---|
| $\frac{1}{3} \ln x^3+1 +c$ (3) | $\ln \sin x +c$ (2) | $\ln x^2+1 +c$ (1) |
| $e^2 \ln e^x+1 +c$ (6) | $\ln \ln x +c$ (5) | $-\ln \cos x +c$ (4) |
| $-\frac{e^{-2x^2}}{4}+c$ (9) | $e^{\tan x}+c$ (8) | $e^{x^2}+c$ (7) |
| $\sin(\ln x)+c$ (12) | $\sin(\sin x)+c$ (11) | $\sin(2x^2+1)+c$ (10) |
| $-2\cos(\sqrt{x})+c$ (15) | $-\frac{1}{2}\cos(x^2+1)+c$ (14) | $\frac{1}{40}\sin(10x^4+1)+c$ (13) |
| $\frac{1}{2}(\tan x)^2+c$ (18) | $\frac{1}{2}(\arctan x)^2+c$ (17) | $\frac{1}{2}(\ln x)^2+c$ (16) |
| $\frac{2}{3}(x^2+1)^{\frac{3}{2}}+c$ (21) | $\sqrt{2\sin x}+c$ (20) | $2\sqrt{x^2+1}+c$ (19) |
| $\frac{2}{3}(\arctan x)^{\frac{3}{2}}+c$ (24) | $\frac{2}{3}(\ln x)^{\frac{3}{2}}+c$ (23) | $\frac{2}{9}(x^3+4)^{\frac{3}{2}}+c$ (22) |

חשבון דיפרנציאלי ואינטגרלי ב

פרק 3 - אינטגרלים בשיטת אינטגרציה בחלקים

תוכן העניינים

1. אינטגרלים בשיטת אינטגרציה בחלקים 8

אינטגרלים בשיטת אינטגרציה בחלקים

שאלות

חשבו את האינטגרלים בשאלות 1-23 :

$$\int x \sin x dx \quad (3) \qquad \int x^4 \ln x dx \quad (2) \qquad \int x e^x dx \quad (1)$$

$$\int x^2 e^{-4x} dx \quad (6) \qquad \int x^2 \sin 4x dx \quad (5) \qquad \int (x^2 + 2x + 3) \ln x dx \quad (4)$$

$$\int \arctan x dx \quad (9) \qquad \int \ln \frac{1}{\sqrt[3]{x}} dx \quad (8) \qquad \int \ln x dx \quad (7)$$

$$\int \frac{x}{\cos^2 x} dx \quad (12) \qquad \int x \cdot \ln \sqrt[5]{x-2} dx \quad (11) \qquad \int \arcsin x dx \quad (10)$$

$$\int x^2 \ln(x^2 + 1) dx \quad (15) \qquad \int x \arctan x dx \quad (14) \qquad \int \frac{\ln x}{x^2} dx \quad (13)$$

$$\int e^x \cos x dx \quad (18) \qquad \int \left(\frac{\ln x}{x} \right)^2 dx \quad (17) \qquad \int \ln^2 x dx \quad (16)$$

$$\int \frac{x e^x}{(x+1)^2} dx \quad (21) \qquad \int \sqrt{1-x^2} dx \quad (20) \qquad \int e^{2x} \sin 4x dx \quad (19)$$

$$\int (x+1)^4 \cdot \sqrt{x+2} dx \quad (23) \qquad \int x \tan^2 x dx \quad (22)$$

(24) מצאו נוסחת נסיגה עבור $\int x^n e^x dx$ כאשר n טבעי.

(25) חשבו את $\int x^4 e^x dx$.

(26) מצאו נוסחת נסיגה עבור $\int \cos^n x dx$ כאשר n טבעי.

(27) חשבו את $\int \cos^4 x dx$.

(28) מצאו נוסחת נסיגה עבור $\int \sin^n x dx$ באשר n טבעי.

(29) חשבו את $\int \sin^4 x dx$.

(30) מצאו נוסחת נסיגה עבור $\int \frac{1}{(1+x^2)^n} dx$ באשר n טבעי.

(31) חשבו את $\int \frac{1}{(1+x^2)^4} dx$.

(32) חשבו את האינטגרלים $\int e^{ax} \cos bxdx$, $\int e^{ax} \sin bxdx$.

תשובות סופיות

$$xe^x - e^x + c \quad (1)$$

$$\frac{x^5}{5} \left(\ln x - \frac{1}{5} \right) + c \quad (2)$$

$$x \cos x + \sin x + c \quad (3)$$

$$\left(\frac{x^3}{3} + x^2 + 3x \right) \ln x - \frac{x^3}{9} + \frac{x^2}{2} + 3x + c \quad (4)$$

$$-\frac{x^2}{4} \cos 4x + \frac{1}{2} \left(\frac{x}{4} \sin x + \frac{1}{16} \cos 4x \right) + c \quad (5)$$

$$-\frac{x^2}{4} e^{-4x} + \frac{1}{2} \left(-\frac{1}{4} x e^{-4x} - \frac{1}{16} e^{-4x} \right) + c \quad (6)$$

$$x \ln x - x + c \quad (7)$$

$$-\frac{1}{3} (x \ln x - x) + c \quad (8)$$

$$x \arctan x - \frac{1}{2} \ln |1 + x^2| + c \quad (9)$$

$$x \arcsin x + \sqrt{1 - x^2} + c \quad (10)$$

$$\frac{1}{5} \left(\frac{x^2}{2} \ln(x-2) - \frac{1}{2} \left(\frac{x^2}{2} + 2x + 4x \ln |x-2| \right) \right) + c \quad (11)$$

$$x \tan x + \ln |\cos x| + c \quad (12)$$

$$-\frac{1}{x} \ln x - \frac{1}{x} + c \quad (13)$$

$$\arctan x \cdot \frac{x^2}{2} - \frac{1}{2} (x - \arctan x) + c \quad (14)$$

$$\frac{x^3}{3} \ln(x^2 + 1) - \frac{2}{3} \left(\frac{x^3}{3} - x + \arctan x \right) + c \quad (15)$$

$$x(\ln x)^2 - 2(x \ln x - x) + c \quad (16)$$

$$-\frac{1}{x} \ln x - \frac{2}{x} (\ln x - 1) + c \quad (17)$$

$$-e^x \cos x + \frac{e^x (\sin x + \cos x)}{2} + c \quad (18)$$

$$\frac{e^{2x} \left(-\cos 4x + \frac{1}{2} \sin 4x \right)}{5} + c \quad (19)$$

$$\frac{x\sqrt{1-x^2} + \arcsin x}{2} + c \quad (20)$$

$$\frac{e^x}{x+1} + c \quad (21)$$

$$x(\tan x - x) + \ln |\cos x| + \frac{x^2}{2} + c \quad (22)$$

$$\frac{2}{9}(x+1)(x+2)^{\frac{9}{2}} - \frac{4}{99}(x+2)^{\frac{11}{2}} + c \quad (23)$$

$$x^n e^x - n \int x^{n-1} e^x dx \quad (24)$$

$$e^x (x^4 - 4x^3 + 12x^2 - 24x + 24) + c \quad (25)$$

$$\frac{1}{n} \left\{ (\cos x)^{n-1} \sin x + (n-1) \int (\cos x)^{n-2} dx \right\} \quad (26)$$

$$\frac{1}{4} (\cos^3 x \sin x + 3 \cdot 5 (\cos x \sin x + x)) + c \quad (27)$$

$$\frac{1}{n} \left(-(\sin x)^{n-1} \cos x + (n-1) \int (\sin x)^{n-2} dx \right) \quad (28)$$

$$\frac{1}{4} (-\sin^3 x \cos x + 3 \cdot 5 (x - \sin x \cos x)) + c \quad (29)$$

$$\frac{1}{2n} \left(\frac{x}{(1+x^2)^n} + \int \frac{dx}{(1+x^2)^n} (2n-1) \right) \quad (30)$$

$$\frac{1}{6} \left\{ \frac{x}{(1+x^2)^3} + \frac{1}{4} \left\{ \frac{x}{(1+x^2)^2} + \frac{1}{2} \left\{ \frac{x}{1+x^2} + \arctan x \right\} \right\} \right\} \quad (31)$$

$$\int e^{ax} \cos bxdx = e^{ax} \frac{b \sin bx + a \cos bx}{a^2 + b^2}, \quad \int e^{ax} \sin bxdx = e^{ax} \frac{a \sin bx - b \cos bx}{a^2 + b^2} \quad (32)$$

חשבון דיפרנציאלי ואינטגרלי ב

פרק 4 - אינטגרלים בשיטת ההצבה

תוכן העניינים

1. אינטגרלים בשיטת ההצבה 12

אינטגרלים בשיטת ההצבה

שאלות

חשבו את האינטגרלים הבאים :

$$\int \frac{2x^3}{\sqrt{x^2+1}} dx \quad (3) \quad \int \sqrt{x^3+4} \cdot x^5 dx \quad (2) \quad \int \frac{2x}{(x^2+1)^2} dx \quad (1)$$

$$\int \frac{1}{x\sqrt{1-\ln^2 x}} dx \quad (6) \quad \int \frac{1}{x \ln^4 x} dx \quad (5) \quad \int \frac{e^x}{e^{2x}+1} dx \quad (4)$$

$$\int \frac{1}{\sqrt{x(1+x)}} dx \quad (9) \quad \int e^{\sqrt[3]{x}} dx \quad (8) \quad \int e^{x^2} x^3 dx \quad (7)$$

$$\int \frac{\cos^2(\ln x)}{x} dx \quad (12) \quad \int x^3 (3x^2-1)^{14} dx \quad (11) \quad \int 2x^3 \cos(x^2+1) dx \quad (10)$$

$$\int \frac{x^3 dx}{x^8+2} \quad (15) \quad \int \ln^3 x dx \quad (14) \quad \int \sqrt{1+\frac{1}{x^2}} dx \quad (13)$$

$$\int \frac{dx}{x \cdot \ln x \cdot \ln(\ln x)} \quad (18) \quad \int \frac{\arctan^2 x}{1+x^2} dx \quad (17) \quad \int \frac{\ln^4 x}{x} dx \quad (16)$$

$$\int \frac{dx}{\sqrt{1+e^{2x}}} \quad (21) \quad \int \frac{x^7}{(1-x^4)^2} dx \quad (20) \quad \int \arctan \sqrt{x} dx \quad (19)$$

$$\int x^5 \sqrt[3]{x^3+1} dx \quad (24) \quad \int \frac{1}{\sqrt{x}(1+\sqrt[3]{x})} dx \quad (23) \quad \int \cos(\ln x) dx \quad (22)$$

תשובות סופיות

$$-\frac{1}{x^2+1} + c \quad (1)$$

$$\frac{2}{3} \left(\frac{(\sqrt{x^3+4})^5}{5} - \frac{4}{3} (\sqrt{x^3+4})^3 \right) + c \quad (2)$$

$$2 \left(\frac{\sqrt{x^2+1}^3}{3} - \sqrt{x^2+1} \right) + c \quad (3)$$

$$\arctan(e^x) + c \quad (4)$$

$$-\frac{1}{3(\ln x)^3} + c \quad (5)$$

$$\arcsin(\ln x) + c \quad (6)$$

$$\frac{1}{2} (x^2 e^{x^2} - e^{x^2}) + c \quad (7)$$

$$3e^{\sqrt[3]{x}} (\sqrt[3]{x^2} - 2\sqrt[3]{x} + 2) + c \quad (8)$$

$$\ln \left| \left(x + \frac{1}{2} \right) + \sqrt{\left(x + \frac{1}{2} \right)^2 - \frac{1}{4}} \right| + c \quad (9)$$

$$x^2 \sin(x^2+1) + \cos(x^2+1) + c \quad (10)$$

$$\frac{1}{18} \left(\frac{(3x^2-1)^{16}}{16} + \frac{(3x^2-1)^{15}}{15} \right) + c \quad (11)$$

$$\frac{1}{2} \left(\ln x + \frac{1}{2} \sin(2 \ln x) \right) + c \quad (12)$$

$$\sqrt{x^2+1} + \frac{1}{2} \ln \left| \frac{\sqrt{x^2+1}-1}{\sqrt{x^2+1}+1} \right| + c \quad (13)$$

$$x(\ln^3 x - 3 \ln^2 x + 6 \ln x - 6) + c \quad (14)$$

$$\frac{1}{4\sqrt{2}} \arctan \left(\frac{x^4}{\sqrt{2}} \right) + c \quad (15)$$

$$\frac{(\ln x)^5}{5} + c \quad (16)$$

$$\frac{(\arctan x)^3}{3} + c \quad (17)$$

$$\ln |\ln(\ln x)| + c \quad (18)$$

$$x \arctan \sqrt{x} - \sqrt{x} + \arctan \sqrt{x} + c \quad (19)$$

$$-\frac{1}{4} \left(-\frac{1}{1-x^4} - \ln |1-x^4| \right) + c \quad (20)$$

$$\frac{1}{2} \ln \left| \frac{\sqrt{1+e^{2x}} - 1}{\sqrt{1+e^{2x}} + 1} \right| + c \quad (21)$$

$$\frac{x}{2} (\cos(\ln x) + \sin(\ln x)) + c \quad (22)$$

$$6(\sqrt[6]{x} - \arctan \sqrt[6]{x}) + c \quad (23)$$

$$\frac{(\sqrt[3]{x^3+1})^7}{7} - \frac{(\sqrt[3]{x^3+1})^4}{4} + c \quad (24)$$

חשבון דיפרנציאלי ואינטגרלי ב

פרק 5 - אינטגרלים של פונקציות רציונליות

תוכן העניינים

1. אינטגרלים של פונקציה רציונלית..... 15
2. חילוק פולינומים ואינטגרלים של פונקציה רציונלית..... 17
3. אינטגרלים שמשלבים הצבה ופונקציה רציונלית..... 18

אינטגרלים של פונקציה רציונלית

שאלות

חשבו את האינטגרלים הבאים :

$$\int \frac{2x+5}{(x^2-2x+1)^4} dx \quad (2)$$

$$\int \frac{x+1}{(x-4)^2} dx \quad (1)$$

$$\int \frac{2-x}{x^2+5x} dx \quad (4)$$

$$\int \frac{dx}{x^2-4} \quad (3)$$

$$\int \frac{x^2+x-1}{x^3-x} dx \quad (6)$$

$$\int \frac{x}{x^2+5x+6} dx \quad (5)$$

$$\int \frac{10x}{x^4-13x^2+36} dx \quad (8)$$

$$\int \frac{6x^2+4x-6}{x^3-7x-6} dx \quad (7)$$

$$\int \frac{5-x}{x^3+x^2} dx \quad (10)$$

$$\int \frac{8x}{(x-2)^2(x+2)} dx \quad (9)$$

$$\int \frac{dx}{(x^2-2x+1)(x^2-4x+4)} \quad (12)$$

$$\int \frac{9x+36}{x^3+6x^2+9x} dx \quad (11)$$

$$\int \frac{1}{x^2+x+1} dx \quad (14)$$

$$\int \frac{1}{x^2+2x+3} dx \quad (13)$$

$$\int \frac{2x^2+2x+1}{(x^2+1)(x+2)} dx \quad (16)$$

$$\int \frac{2x^2+x-1}{(x^2+1)(x-3)} dx \quad (15)$$

$$\int \frac{1}{x(x^2+1)^2} dx \quad (18)$$

$$\int \frac{3}{(x^2+1)(x^2+4)} dx \quad (17)$$

$$\int \frac{25x^2}{(x-1)(x^2+4)^2} dx \quad (19)$$

תשובות סופיות

$$\ln|x-4| - \frac{5}{x-4} + c \quad (1)$$

$$-\frac{1}{3(x-6)^6} - \frac{1}{(x-1)^7} + c \quad (2)$$

$$\frac{1}{4} \ln \left| \frac{x-2}{x+2} \right| + c \quad (3)$$

$$\frac{2}{5} \ln|x| - \frac{7}{5}|x+5| + c \quad (4)$$

$$3 \ln|x+3| - 2 \ln|x+2| + c \quad (5)$$

$$\ln|x| + \frac{1}{2}|x-1| - \frac{1}{2} \ln|x+1| + c \quad (6)$$

$$\ln|x+1| + 2 \ln|x+2| + 3 \ln|x-3| + c \quad (7)$$

$$\ln|x+3| + \ln|x-3| - \ln|x+2| - \ln|x-2| + c \quad (8)$$

$$\ln|x-2| - \frac{4}{x-2} - \ln|x+2| + c \quad (9)$$

$$6 \ln \left| \frac{x+1}{x} \right| - \frac{5}{x} + c \quad (10)$$

$$4 \ln \left| \frac{x}{x+3} \right| + \frac{3}{x+3} + c \quad (11)$$

$$2 \ln \left| \frac{x-1}{x-2} \right| - \frac{1}{x-1} - \frac{1}{x-2} + c \quad (12)$$

$$\frac{1}{\sqrt{2}} \arctan \left(\frac{x+1}{\sqrt{2}} \right) + c \quad (13)$$

$$\frac{1}{\sqrt{3/4}} \arctan \left(\frac{x+0.5}{\sqrt{3/4}} \right) + c \quad (14)$$

$$\arctan x + 2 \ln|x-3| + c \quad (15)$$

$$\frac{1}{2} \ln(x^2+1) + \ln|x+2| + c \quad (16)$$

$$\arctan x - \frac{1}{2} \arctan \left(\frac{x}{2} \right) + c \quad (17)$$

$$\ln|x| - \frac{1}{2} \ln(x^2+1) + \frac{1}{2(x^2+1)} + c \quad (18)$$

$$\frac{1}{16} \left(\arctan \left(\frac{x}{2} \right) + \frac{1}{2} \sin \left(\arctan \left(\frac{x}{2} \right) \right) \right) + c \quad (19)$$

חילוק פולינומים ואינטגרלים של פונקציה רציונלית

שאלות

חשבו את האינטגרלים הבאים :

$$\int \frac{3x^3 - 5x^2 + 4x - 2}{x-1} dx \quad (1)$$

$$\int \frac{x^4 + 2x^3 - 10x^2 - 8x}{x+4} dx \quad (2)$$

$$\int \frac{12x^3 - 11x^2 + 6x - 1}{4x-1} dx \quad (3)$$

$$\int \frac{x^4 - 2x^3 + x^2 + x}{(x-1)^2} dx \quad (4)$$

$$\int \frac{x^4 - 4x^2 + x + 1}{x^2 - 4} dx \quad (5)$$

תשובות סופיות

$$x^3 - x^2 + 2x + c \quad (1)$$

$$\frac{x^4}{4} - \frac{2x^3}{3} - x^2 + c \quad (2)$$

$$x^3 - x^2 + x + c \quad (3)$$

$$\frac{x^3}{3} + \ln|x-1| - \frac{1}{x-1} + c \quad (4)$$

$$\frac{x^3}{3} + \frac{3}{4} \ln|x-2| + \frac{1}{4} \ln|x+2| + c \quad (5)$$

אינטגרלים שמשלבים הצבה ופונקציה רציונלית

שאלות

חשבו את האינטגרלים הבאים :

$$\int \frac{dx}{\sqrt[3]{x-x}} \quad (1)$$

$$\int \frac{dx}{\sqrt[3]{x+\sqrt{x}}} \quad (2)$$

$$\int \frac{1}{1+\sqrt[4]{x-1}} dx \quad (3)$$

$$\int \frac{\sqrt[3]{x^2}}{x+1} dx \quad (4)$$

$$\int \frac{1}{1+e^x} dx \quad (5)$$

$$\int \sqrt{1+e^x} dx \quad (6)$$

$$\int \frac{1}{x\sqrt{1-x^2}} dx \quad (7)$$

תשובות סופיות

$$-1.5 \ln |1 - \sqrt[3]{x^2}| + c \quad (1)$$

$$6 \left(\frac{(1 + \sqrt[6]{x})^3}{3} - \frac{3(1 + \sqrt[6]{x})}{2} + 3(1 + \sqrt[6]{x}) - \ln |1 + \sqrt[6]{x}| \right) + c \quad (2)$$

$$4 \left(\frac{(1 + \sqrt[4]{x-1})^2}{3} - \frac{3(1 + \sqrt[4]{x-1})^2}{2} + 3(1 + \sqrt[4]{x-1}) - \ln |1 + \sqrt[4]{x-1}| \right) + c \quad (3)$$

$$\frac{3}{2} \sqrt[3]{x} + \ln |\sqrt[3]{x} + 1| - \frac{1}{2} \ln \left((\sqrt[3]{x} - 0.5)^2 + 0.75 \right) - \sqrt{3} \arctan \left(\frac{2\sqrt[3]{x} - 1}{\sqrt{3}} \right) + c \quad (4)$$

$$-\ln |1 + e^x| + x + c \quad (5)$$

$$2\sqrt{1 + e^x} + \ln \left| \frac{\sqrt{1 + e^x} - 1}{\sqrt{1 + e^x} + 1} \right| + c \quad (6)$$

$$\ln \left| \frac{1 - \sqrt{1 - x^2}}{x} \right| + c \quad (7)$$

נוסחאות

$$(a - b)^3 = a^3 - 3a^2b + 3ab^2 - b^3$$

חשבון דיפרנציאלי ואינטגרלי ב

פרק 6 - האינטגרל המסוים, אינטגרביליות לפי רימן

תוכן העניינים

1. האינטגרל המסוים, הנוסחה היסודית של החדו"א 20
2. מונוטוניות האינטגרל, אי שוויונות אינטגרליים 26
3. האינטגרל המסוים לפי ההגדרה, אינטגרביליות 29
4. משפטי האינטגרביליות 32

האינטגרל המסוים, הנוסחה היסודית של החדו"א

שאלות

חשבו את האינטגרלים בשאלות 1-9:

$$\int_1^4 (x^2 - 4x + 1) dx \quad (1)$$

$$\int_1^2 \frac{4x+1}{2x^2+x+5} dx \quad (2)$$

$$\int_0^1 x e^{-x} dx \quad (3)$$

$$\int_1^e \frac{\ln^4 x}{x} dx \quad (4)$$

$$\int_1^4 \frac{1}{x^2 + 4x + 5} dx \quad (5)$$

$$\int_0^\pi \cos^2 10x dx \quad (6)$$

$$f(x) = \begin{cases} \sqrt{x} & 0 \leq x < 1 \\ \frac{1}{x^2} & x \geq 1 \end{cases} \text{ כאשר } \int_0^4 f(x) dx \quad (7)$$

$$\int_{-1}^4 \sqrt{4+|x-1|} dx \quad (8)$$

$$\int_0^2 \max\{x, x^2\} dx \quad (9)$$

(10) הוכיחו כי :

$$\int_a^b f(x) dx = \int_a^b f(a+b-x) dx \quad \text{א.}$$

$$\int_0^1 x^m (1-x)^n dx = \int_0^1 x^n (1-x)^m dx \quad \text{ב.}$$

(11) הוכיחו שלכל פונקציה רציפה f :

$$\int_0^{\pi/2} f(\sin x) dx = \int_0^{\pi/2} f(\cos x) dx \quad \text{א.}$$

$$\int_0^{\pi} x f(\sin x) dx = \frac{\pi}{2} \int_0^{\pi} f(\sin x) dx \quad \text{ב.}$$

(12) תהי $f: [1, \infty) \rightarrow \mathbb{R}$ מוגדרת על ידי $f(x) = \int_1^x \frac{\ln t}{1+t} dt$.

$$f(x) + f\left(\frac{1}{x}\right) = 2 \quad \text{פתרו את המשוואה}$$

(13) ללא חישוב האינטגרלים, חשבו את הערך של $\int_1^x \frac{1}{1+t^2} dt + \int_1^{1/x} \frac{1}{1+t^2} dt$.

$$\int_0^{\pi/2} \frac{\sqrt[4]{\sin x}}{\sqrt[4]{\sin x} + \sqrt[4]{\cos x}} dx \quad \text{חשבו: (14)}$$

$$\int_0^{\pi} \frac{x \sin x}{1 + \cos^2 x} dx \quad \text{חשבו: (15)}$$

(16) נתונה פונקציה רציפה f . הוכיחו :

$$\int_{-a}^a f(x) dx = 2 \int_0^a f(x) dx \quad \text{א. אם } f \text{ זוגית, אזי}$$

$$\int_{-a}^a f(x) dx = 0 \quad \text{ב. אם } f \text{ אי-זוגית, אזי}$$

חשבו את האינטגרלים בשאלות 17-18 :

$$\int_{-1}^1 (x^3 + x^5) \cos x dx \quad (17)$$

$$\int_{-4}^4 \frac{\sin x + 1}{x^2 + 1} dx \quad (18)$$

(19) נתון כי $f(x)$ פונקציה רציפה ואי-זוגית לכל x , ונתון כי $|f(x)| \leq \frac{1}{2}$.

$$\int_{-\frac{1}{2}}^{\frac{1}{2}} \ln \left(\frac{1-f(x)}{1+f(x)} \right) dx$$

חשבו את האינטגרל

(20) חשבו את ערך האינטגרלים הבאים :

$$\int_0^{\pi/2} \frac{f(\sin x)}{f(\sin x) + f(\cos x)} dx \quad \text{א.}$$

$$\int_0^{\pi/2} \frac{f(\cos x)}{f(\sin x) + f(\cos x)} dx \quad \text{ב.}$$

$$(n \in \mathbb{N}) \int_0^{\pi/2} \frac{1}{1 + \tan^n x} dx \quad \text{ג.}$$

(21) (אזהרה לגבי שיטת ההצבה)

$$\text{א. חשבו את האינטגרל } \int_{-1}^1 \frac{1}{1+x^2} dx \text{ , בעזרת ההצבה } t = \frac{1}{x}$$

$$\text{ב. חשבו את האינטגרל } \int_{-1}^1 \frac{1}{1+x^2} dx \text{ ישירות.}$$

ג. בסעיפים א' ו-ב' קיבלנו תשובות שונות. הסבירו את הסתירה.

$$(22) \text{ הוכיחו כי } \int_0^{\pi} \frac{1}{1 + \cos^2 x} dx = 2 \int_0^{\pi/2} \frac{1}{1 + \cos^2 x} dx$$

(23) ענו על הסעיפים הבאים :

$$\text{א. בעזרת ההצבה } t = \tan x \text{ חשבו את האינטגרל } \int \frac{1}{1 + \cos^2 x} dx$$

$$\text{ב. חשבו את ערך האינטגרל } \int_0^{\pi} \frac{1}{1 + \cos^2 x} dx$$

$$(24) \text{ חשבו את ערך האינטגרל } \int_0^{\pi} \frac{x}{1 + \cos^2 x} dx$$

(25) תהי $f(x)$ פונקציה גזירה פעמיים בקטע $[a, b]$.

נניח כי הישר המשיק לגרף הפונקציה בנקודה $x = a$ יוצר זווית $\frac{\pi}{3}$ עם הכיוון

החיובי של ציר x והישר המשיק לגרף הפונקציה בנקודה $x = b$ יוצר זווית $\frac{\pi}{4}$ עם הכיוון החיובי של ציר x .

$$\text{חשבו את ערך האינטגרל } \int_{e^a}^{e^b} \frac{f''(\ln x)}{x} dx$$

(26) הוכיחו:

אם f פונקציה רציפה ומחזורית על כל הישר ואם T המחזור של f

$$\text{אז לכל מספר ממשי } a \text{ מתקיים } \int_a^{a+T} f(x) dx = \int_0^T f(x) dx$$

(27) הוכיחו או הפריכו את הטענות הבאות:

א. אם f ו- g פונקציות רציפות ב- $[a, b]$, ואם $\int_a^b f(t) dt = 0$ וגם

$$\int_a^b g(t) dt = 0 \text{ , אז } \int_a^b f(t) g(t) dt = 0$$

ב. אם f זוגית ואינטגרבילית בכל קטע,

$$\text{אז הפונקציה } g(x) = \int_0^x f(t) dt \text{ אי-זוגית.}$$

תשובות סופיות

(1) -6

(2) $\ln\left(\frac{15}{8}\right)$

(3) $-2e^{-1} + 1$

(4) $\frac{1}{5}$

(5) $\arctan 6 - \arctan 3$

(6) $\frac{\pi}{2}$

(7) $\frac{17}{12}$

(8) $\frac{2}{3}(-16 + 6^{1.5} + 7^{1.5})$

(9) $\frac{17}{6}$

(10) שאלת הוכחה.

(11) שאלת הוכחה.

(12) $x = e^2$

(13) 0

(14) $\frac{\pi}{4}$

(15) $\frac{\pi^2}{4}$

(16) שאלת הוכחה.

(17) 0

(18) $2 \arctan 4$

(19) 0

(20) א, ב, ג. $\frac{\pi}{4}$

(21) א. 0 ב. $\frac{\pi}{2}$ ג. ראו בסרטון.

(22) שאלת הוכחה.

(23) א. $\frac{1}{\sqrt{2}} \arctan\left(\frac{\tan x}{\sqrt{2}}\right) + c$ ב. $\frac{\pi}{\sqrt{2}}$

(24) $\frac{\pi^2}{2\sqrt{2}}$

(25) $1 - \sqrt{3}$

(26) שאלת הוכחה.

(27) שאלת הוכחה.

מונוטוניות האינטגרל, אי שוויונות אינטגרליים

שאלות

- (1) תהי $f : [a, b] \rightarrow \mathbb{R}$ פונקציה אינטגרבילית, ונניח כי $m \leq f(x) \leq M$ לכל x בקטע $[a, b]$. הוכיחו כי $m(b-a) \leq \int_a^b f(x) dx \leq M(b-a)$.

הוכיחו את אי-השוויונים בשאלות 10-2:

$$\frac{2}{41} \leq \int_{-1}^3 \frac{dx}{1+x^4} \leq 4 \quad (2)$$

$$6 \leq \int_{-4}^2 \sqrt{1+x^2} dx \leq 6\sqrt{17} \quad (3)$$

$$2 \leq \int_0^2 e^{x^2} dx \leq 2e^4 \quad (4)$$

$$\frac{1}{2} e^{-10} \leq \int_0^{10} \frac{e^{-x}}{x+10} dx \leq 1 \quad (5)$$

$$\frac{1}{\sqrt[3]{\ln 4}} \leq \int_3^4 \frac{dx}{\sqrt[3]{\ln x}} \leq \frac{1}{\sqrt[3]{\ln 3}} \quad (6)$$

$$\frac{\pi}{14} \leq \int_0^{\pi/2} \frac{dx}{3+4\sin^2 x} \leq \frac{\pi}{6} \quad (7)$$

$$\frac{2}{9} \leq \int_{-1}^1 \frac{dx}{8+x^3} \leq \frac{2}{7} \quad (8)$$

$$-\frac{1}{2} \leq \int_0^1 x \cdot \sin\left(\frac{\ln(x+1)}{x+1}\right) dx \leq \frac{1}{2} \quad (9)$$

$$\int_0^{\pi} x^2 \arctan\left(\frac{\sin x}{x+4}\right) dx \leq \frac{\pi^4}{6} \quad (10)$$

(11) תהי $f: [a, b] \rightarrow \mathbb{R}$ פונקציה אינטגרבילית. בהסתמך על המשפט, שטוען כי גם $|f|$ אינטגרבילית בקטע,

$$\left| \int_a^b f(x) dx \right| \leq \int_a^b |f(x)| dx$$

הוכיחו כי

(12) תהי $f: [0, 1] \rightarrow \mathbb{R}$ פונקציה רציפה המקיימת $|f(x)| \leq \int_0^x f(t) dt$ לכל $x \in [0, 1]$. הוכיחו כי $f(x) = 0$ לכל $x \in [0, 1]$.

(13) תהי $f: [0, a] \rightarrow \mathbb{R}$, כך ש- $f''(x) > 0$ לכל $x \in [0, a]$. הוכיחו כי $\int_0^a f(x) dx > af\left(\frac{a}{2}\right)$. תנו משמעות גיאומטרית לתוצאה שהתקבלה.

(14) תהי g פונקציה רציפה ב- $[a, b]$, המקיימת $\int_a^b |g(t)| dt = 0$. הוכיחו כי לכל x בקטע (a, b) , מתקיים $g(x) = 0$.

(15) תהי f פונקציה אינטגרבילית בקטע $[a, b]$, המקיימת $\int_a^b f(x) dx > 1$. הוכיחו שקיים x_0 בקטע $[a, b]$, עבורו $f(x_0) > \frac{1}{b-a}$.

(16) יהי n מספר טבעי, ותהי f פונקציה מונוטונית עולה ואינטגרבילית בקטע $[1, n]$.

הוכיחו כי $f(1) + f(2) + \dots + f(n-1) \leq \int_1^n f(x) dx \leq f(2) + f(3) + \dots + f(n)$

(17) חשבו את הגבול $\lim_{n \rightarrow \infty} \frac{1}{n} \sum_{k=1}^n \ln k$

(18) הוכיחו שאם הפונקציה f רציפה בקטע $[a, b]$, גזירה בקטע (a, b)

$$\text{וגם } f'(x) \leq M \text{ לכל } x \text{ בקטע זה, וכן } f(a) = 0, \text{ אז } \int_a^b f(x) dx \leq \frac{M(b-a)^2}{2}$$

(19) יהיו $f, g: [a, b] \rightarrow \mathbb{R}$ פונקציות אינטגרביליות.

נניח כי f עולה ו- g אי-שלילית.

$$\text{הוכיחו שקיים } c \in [a, b], \text{ כך ש-} \int_a^b f(x)g(x)dx = f(b)\int_a^c g(x)dx + f(a)\int_c^b g(x)dx$$

לתשובות מלאות בסרטוני וידאו היכנסו לאתר www.GooL.co.il

האינטגרל המסוים לפי ההגדרה, אינטגרביליות

חשבו את הגבולות בשאלות 1-7:

$$\lim_{n \rightarrow \infty} \frac{1^4 + 2^4 + \dots + n^4}{n^5} \quad (1)$$

$$\lim_{n \rightarrow \infty} \frac{\sin \frac{1}{n} + \sin \frac{2}{n} + \dots + \sin \frac{n}{n}}{n} \quad (2)$$

$$\lim_{n \rightarrow \infty} \left\{ \frac{1}{n+1} + \frac{1}{n+2} + \dots + \frac{1}{n+n} \right\} \quad (3)$$

$$\lim_{n \rightarrow \infty} \left\{ \frac{n}{n^2+1^2} + \frac{n}{n^2+2^2} + \dots + \frac{n}{n^2+n^2} \right\} \quad (4)$$

$$\lim_{n \rightarrow \infty} \left\{ \frac{1}{\sqrt{n^2+1^2}} + \frac{1}{\sqrt{n^2+2^2}} + \dots + \frac{1}{\sqrt{n^2+n^2}} \right\} \quad (5)$$

$$\lim_{n \rightarrow \infty} \left\{ \frac{\sqrt{n+1} + \sqrt{n+2} + \dots + \sqrt{2n}}{n^{3/2}} \right\} \quad (6)$$

$$\lim_{n \rightarrow \infty} \left[\frac{n}{(n+1)^2} + \frac{n}{(n+2)^2} + \dots + \frac{n}{(n+n)^2} \right] \quad (7)$$

$$\lim_{n \rightarrow \infty} \ln \left(\frac{\sqrt[n]{n!}}{n} \right) \quad \text{חשבו:} \quad (8)$$

* תרגיל זה רלוונטי רק למי שלמד אינטגרלים לא-אמיתיים.

חשבו את האינטגרלים בשאלות 9-12 על פי ההגדרה (של רימן):

תוכלו להיעזר בזהויות הבאות:

$$1 + 2 + 3 + \dots + n = 0.5n(n+1)$$

$$1^2 + 2^2 + 3^2 + \dots + n^2 = \frac{1}{6}n(n+1)(2n+1)$$

$$1^3 + 2^3 + 3^3 + \dots + n^3 = \frac{1}{4}n^2(n+1)^2$$

$$\sin \alpha + \sin 2\alpha + \dots + \sin n\alpha = \frac{\sin \frac{n}{2}\alpha \sin \frac{n+1}{2}\alpha}{\sin \frac{\alpha}{2}}$$

$$\int_0^{\pi} \sin x dx \quad (12)$$

$$\int_0^1 x^3 dx \quad (11)$$

$$\int_0^1 x^2 dx \quad (10)$$

$$\int_0^1 x dx \quad (9)$$

$$(13) \text{ חשבו לפי ההגדרה של רימן את } \int_1^4 x^2 dx$$

$$(14) \text{ חשבו לפי ההגדרה של רימן את } \int_1^2 \frac{1}{x} dx$$

$$P = \left\{ 1 = 2^{\frac{0}{n}}, 2^{\frac{1}{n}}, 2^{\frac{2}{n}}, 2^{\frac{3}{n}}, \dots, 2^{\frac{n}{n}} = 2 \right\} \text{ רמז: השתמשו בחלוקה הבאה של הקטע}$$

תשובות סופיות

$$\frac{1}{5} \quad (1)$$

$$1 - \cos 1 \quad (2)$$

$$\ln 2 \quad (3)$$

$$\frac{\pi}{4} \quad (4)$$

$$\ln(1 + \sqrt{2}) \quad (5)$$

$$\frac{2^{1.5}}{1.5} - \frac{2}{3} \quad (6)$$

$$\ln 2 \quad (7)$$

$$-1 \quad (8)$$

$$\frac{1}{2} \quad (9)$$

$$\frac{1}{3} \quad (10)$$

$$\frac{1}{4} \quad (11)$$

$$2 \quad (12)$$

$$21 \quad (13)$$

$$0.5 \quad (14)$$

משפטי האינטגרביליות

שאלות

1) בדקו עבור כל אחת מהפונקציות הבאות האם היא אינטגרבילית בקטע $[a, b]$:

$$[a, b] = [0, 2] \quad f(x) = \begin{cases} \frac{x}{x-1} & x \neq 1 \\ 1 & x = 1 \end{cases} \quad \text{א.}$$

$$[a, b] = [-4, 14] \quad f(x) = \frac{x^2 + x + 1}{x^2 + 1} \quad \text{ב.}$$

$$[a, b] = [0, 9] \quad f(x) = \begin{cases} 4x & x \neq 1 \\ -41 & x = 1 \end{cases} \quad \text{ג.}$$

2) ענו על הסעיפים הבאים:

- א. הוכיחו שפונקציית דיריכלה אינה אינטגרבילית בשום קטע $[a, b]$.
 ב. מצאו דוגמה לפונקציה חסומה בקטע מסוים שאינה אינטגרבילית בו.
 ג. מצאו דוגמה לפונקציה מונוטונית למקוטעין בקטע $[-1, 1]$, שאינה אינטגרבילית בקטע.

3) לגבי כל אחת מהטענות, קבעו אם היא נכונה או לא נכונה. נמקו.

- א. קיימת פונקציה אינטגרבילית f , בקטע $[a, b]$, שאין לה פונקציה קדומה בקטע זה.
 ב. קיימת פונקציה f , החסומה בקטע $[a, b]$ וגזירה בקטע (a, b) , שאינה אינטגרבילית ב- $[a, b]$.

$$f(x) = \begin{cases} 0 & x \in \mathbb{Q}, x \neq \frac{1}{2}, x \neq \frac{1}{4} \\ 1 & x \notin \mathbb{Q} \\ 2 & x = \frac{1}{2}, x = \frac{1}{4} \end{cases} \quad \text{4) נתונה הפונקציה}$$

האם הפונקציה אינטגרבילית בקטע $[0, 1]$?

לתשובות מלאות בסרטוני וידאו היכנסו לאתר www.GooL.co.il

חשבון דיפרנציאלי ואינטגרלי ב

פרק 7 - שימושי האינטגרל המסויים (שטח-אורך קשת)

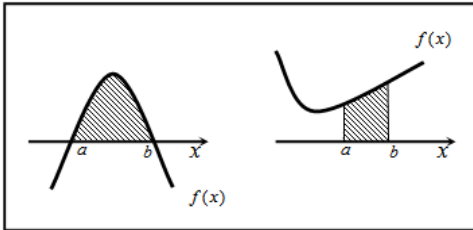
תוכן העניינים

1. חישוב שטחים 33
2. חישוב שטחים ביחס לציר ה-y 53
3. אורך קשת 54

חישוב שטחים

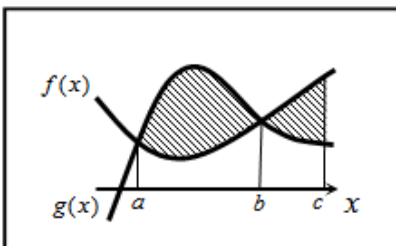
חישוב שטחים באמצעות אינטגרל (מקרים פרטיים)

1. שטח הכלוא בין גרף פונקציה וציר ה- x :



$$S = \int_a^b f(x) dx$$

2. שטח הכלוא בין שני גרפים, כך שגרף אחד כולו מעל השני :

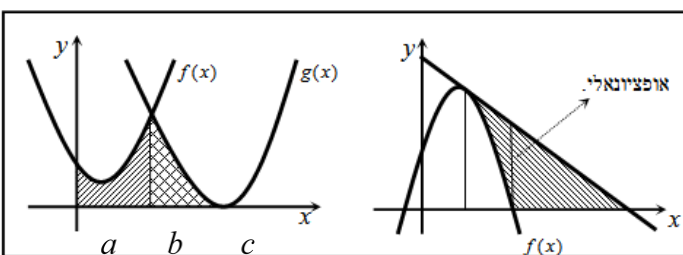


$$S_1 = \int_a^b (g(x) - f(x)) dx$$

$$S_2 = \int_b^c (f(x) - g(x)) dx$$

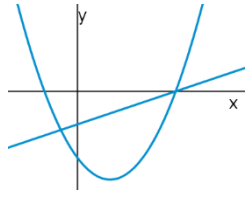
$$S = S_1 + S_2$$

3. שטח הכלוא בין שני גרפים וציר ה- x :

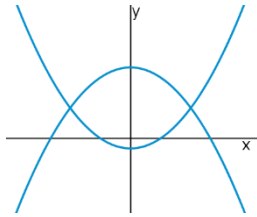


$$S = \int_a^b f(x) dx + \int_b^c g(x) dx$$

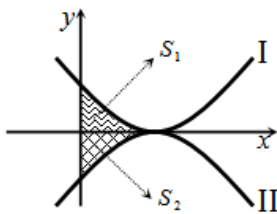
שאלות



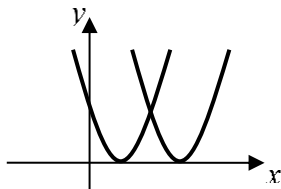
- (1) נתונות הפונקציות $f(x) = x^2 - 4x - 12$ ו- $g(x) = x - 6$.
 חשבו את גודל השטח הכלוא בין הגרפים של f ו- g .



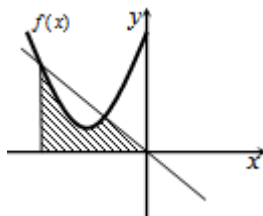
- (2) נתונות הפונקציות $f(x) = x^2 - 1$, $g(x) = 7 - x^2$.
 חשבו את גודל השטח הכלוא בין הגרפים של f ו- g .



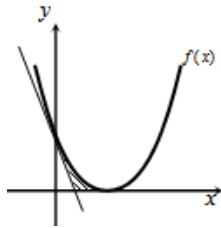
- (3) נתונות הפונקציות $f(x) = (x-2)^2$ ו- $g(x) = -(x-2)^2$,
 כמתואר באיור.
 א. התאימו בין הפונקציות לגרפים I ו-II.
 ב. נסמן את השטחים שבין כל פונקציה והצירים
 ב- S_1 ו- S_2 , כמתואר באיור.
 הראו כי השטחים S_1 ו- S_2 שווים זה לזה.



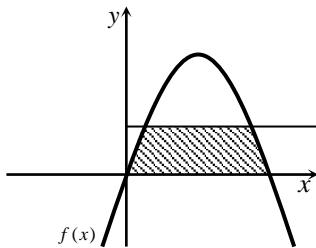
- (4) נתונות הפונקציות $f(x) = x^2 - 2x + 1$, $g(x) = x^2 - 6x + 9$.
 חשבו את גודל השטח הכלוא בין הפונקציות ובין ציר ה- x .



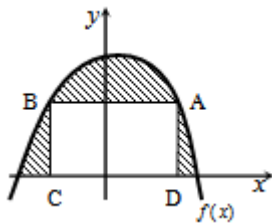
- (5) נתונה הפונקציה $f(x) = x^2 + 6x + 12$.
 ישר העובר בראשית הצירים חותך את גרף הפונקציה
 בנקודה שבה $x = -4$, כמתואר באיור.
 א. מצאו את משוואת הישר.
 ב. מצאו את נקודת החיתוך השנייה של הישר והפונקציה.
 ג. מצאו את השטח המוגבל בין הישר, גרף הפונקציה, ציר ה- x והישר $x = -4$.



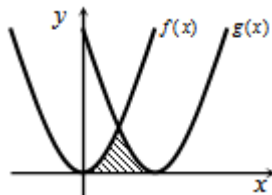
- 6 נתונה הפונקציה $f(x) = (x-2)^2$.
 בנקודת החיתוך שלה עם ציר ה- y נעביר משיק.
 א. מצאו את משוואת המשיק.
 ב. מצאו את נקודת החיתוך של המשיק עם ציר ה- x .
 ג. חשבו את השטח הכלוא בין המשיק, גרף הפונקציה וציר ה- x (השטח המסומן).



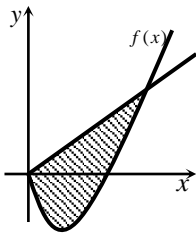
- 7 נתונה הפונקציה $f(x) = kx - x^2$.
 הישר $y = 9$ חותך את גרף הפונקציה בשתי נקודות.
 ידוע כי שיעור ה- x של אחת מנקודות אלה הוא $x = 9$.
 א. מצאו את ערך הפרמטר k .
 ב. מצאו את נקודת החיתוך השנייה בין שני הגרפים.
 ג. חשבו את השטח המוגבל בין גרף הפונקציה, הישר וציר ה- x (השטח המסומן).



- 8 הנגזרת של הפונקציה $f(x)$, המתוארת באיור שלהלן, היא $f'(x) = 3 - 2x$. ישר AB , שמשוואתו $y = 6$ חותך את גרף הפונקציה $f(x)$ בנקודות A ו- B . מנקודות אלו מורידים אנכים לציר ה- x , כך שנוצר מלבן $ABCD$. ידוע ששיעור ה- x של הנקודה A הוא $x = 4$.
 א. מצאו את הפונקציה $f(x)$.
 ב. חשבו את השטח הכלוא בין גרף הפונקציה, המלבן וציר ה- x (השטח המסומן).



- 9 באיור שלהלן חותך גרף הפונקציה $f(x) = x^2$ את גרף הפונקציה $g(x)$, בנקודה שבה $x = 2$. הנגזרת של הפונקציה $g(x)$ היא $g'(x) = 2x - 8$.
 א. מצאו את הפונקציה $g(x)$.
 ב. חשבו את השטח הכלוא בין שני הגרפים וציר ה- x (השטח המסומן).



10 באיור שלהלן מתוארים גרף הפונקציה $f(x)$ והישר $y = 2x$.

נגזרת הפונקציה $f(x)$ היא $f'(x) = 2x - 6$,

וידוע כי הישר חותך את הפונקציה

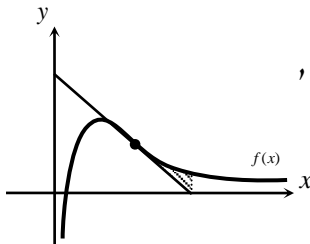
בנקודה שבה ערך ה- y הוא $y = 16$.

א. מצאו את הפונקציה $f(x)$.

ב. האם יש לגרף הפונקציה ולישר עוד נקודות חיתוך? אם כן, מצאו אותן.

ג. חשבו את השטח המוגבל בין גרף הפונקציה והישר.

11 ענו על הסעיפים הבאים:



א. מבין כל המשיקים לגרף הפונקציה $f(x) = \frac{2}{x^2} - \frac{1}{x^3}$,

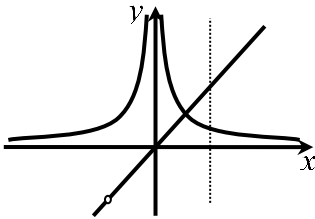
מצאו את משוואת המשיק ששיפועו מינימלי.

ב. באיור שלהלן מתוארים הגרפים של הפונקציה

והמשיק שמצאת בסעיף א'.

חשבו את השטח הכלוא בין גרף הפונקציה, המשיק, ואנך לציר ה- x ,

היוצא מנקודת החיתוך של המשיק עם ציר ה- x .

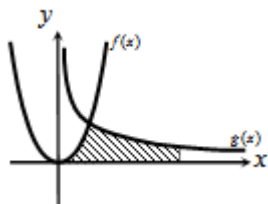


12 נתונות שתי פונקציות $f(x) = \frac{1}{x^2}$, $g(x) = \frac{x^2 + 2x}{x + 2}$.

חשבו את גודל השטח הכלוא בין הפונקציות,

הישר $x = 2$ וציר ה- x .

13 באיור שלהלן מתוארים הגרפים של הפונקציות



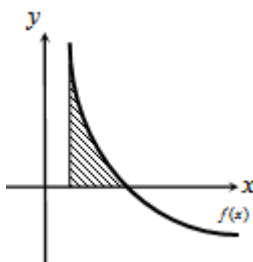
$f(x) = 2x^2$ ו- $g(x) = \frac{a}{x^2}$ (קבוע a), בתחום $x > 0$.

ידוע כי הגרפים נחתכים ברביע הראשון,

בנקודה הנמצאת על הישר $y = 4x$.

א. מצאו את נקודת החיתוך של הגרפים ואת a .

ב. חשבו את השטח המוגבל בין שני הגרפים, ציר ה- x והישר $x = 4$.



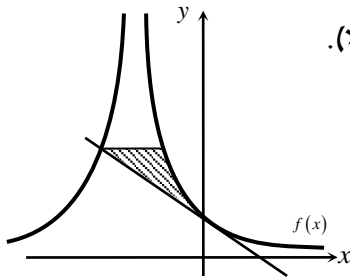
14 גרף הפונקציה $f(x) = \frac{a - x^2}{x^2}$ (קבוע a)

חותך את ציר ה- x בנקודה $(6, 0)$.

א. מצאו את a וכתבו את הפונקציה.

ב. חשבו את השטח המוגבל בין גרף הפונקציה,

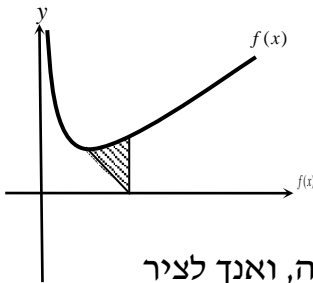
ציר ה- x והישר $x = 2$.



15 נתונה הפונקציה $f(x) = \frac{A}{(2x+A)^2}$ (פרמטר חיובי).

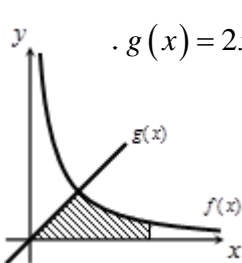
ידוע כי שיפוע הפונקציה בנקודת החיתוך שלה עם ציר ה- y , הוא $-\frac{1}{9}$.

- א. מצאו את ערך הפרמטר A .
- ב. כתבו את משוואת המשיק לגרף הפונקציה בנקודת החיתוך עם ציר ה- y .
- ג. הראו כי המשיק חותך את גרף הפונקציה בנקודה שבה $x = -4.5$.
- ד. העבירו ישר אופקי מנקודת החיתוך של המשיק וגרף הפונקציה מהסעיף הקודם, ומצאו את נקודת החיתוך הנוספת של ישר זה עם גרף הפונקציה.
- ה. חשבו את השטח כלוא בין המשיק, הישר וגרף הפונקציה (היעזרו באיור).



16 באיור שלהלן נתונה הפונקציה $f(x) = \frac{1}{\sqrt{2x}} + x$.

- א. מצאו את נקודת המינימום שלה.
- ב. מנקודת המינימום של הפונקציה נעביר ישר לנקודה $(2, 0)$, שעל ציר ה- x .
- מצאו את השטח הכלוא בין ישר זה, גרף הפונקציה, ואנך לציר ה- x , היוצא מהנקודה $(2, 0)$ עד לנקודת החיתוך עם גרף הפונקציה.

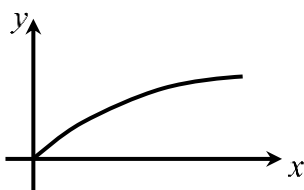


17 באיור הבא מתוארים גרפים של הפונקציות $f(x) = \frac{16}{\sqrt{x}}$ ו- $g(x) = 2x - 1$.

- א. מצאו את נקודת החיתוך של הגרפים.
- ב. חשבו את השטח המוגבל בין שני הגרפים, ציר ה- x והישר $x = 9$.

18 נתונה הפונקציה $f(x) = (x-6)\sqrt{x}$.

חשבו את גודל השטח הכלוא בין הפונקציה, המשיק לפונקציה בנקודת המינימום שלה וציר ה- y .



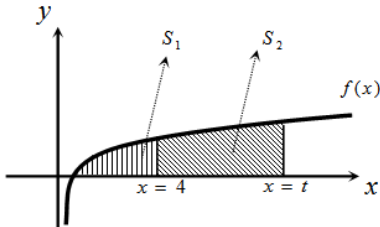
19 נתונה הפונקציה $f(x) = \frac{x}{\sqrt{x^2+1}}$ ברביע הראשון.

לפונקציה העבירו משיק העובר בראשית הצירים. חשבו את גודל השטח הכלוא בין הפונקציה, המשיק והישר $x = \sqrt{3}$.

(20) באיור שלהלן מתואר גרף הפונקציה $f(x) = 1 - \frac{1}{\sqrt{x}}$.

נעביר שני אנכים לציר ה- x , $x = 4$ ו- $x = t$ (כאשר $t > 4$).
 נסמן את השטח הכלוא בין גרף הפונקציה וציר ה- x ב- S_1 ,
 ואת השטח הכלוא בין גרף הפונקציה, ציר ה- x והאנכים ב- S_2 .

ידוע כי $8S_1 = S_2$.
 מצאו את t .



(21) נתונה הפונקציה $f(x) = \frac{x\sqrt{x} - 8}{\sqrt{x}}$.

א. ענו על הסעיפים הבאים:

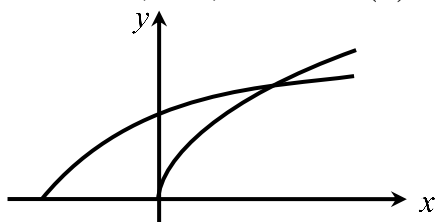
- מצאו את תחום ההגדרה של הפונקציה.
- מצאו את נקודת החיתוך של הפונקציה עם ציר ה- x .
- הראו כי הפונקציה עולה בכל תחום הגדרתה.

ב. נעביר משיק לגרף הפונקציה ששיפועו הוא $m = \frac{17}{16}$.

מצאו את נקודת ההשקה.

ג. חשבו את השטח הכלוא בין גרף הפונקציה, ציר ה- x ואנך לציר ה- x מנקודת ההשקה שמצאת בסעיף הקודם.

(22) נתונות שתי פונקציות $f(x) = \sqrt{x+b}$, $g(x) = \sqrt{2x}$, כאשר $(b > 0)$.



גודל השטח הכלוא בין הפונקציות

וציר ה- x הוא $\frac{2}{3}$ יחידות שטח.

מצאו את ערכו של הפרמטר b .

(23) באיור שלהלן מתוארים גרפים של הפונקציות $f(x) = x^2$ ו- $g(x) = \frac{32}{\sqrt{x}}$.

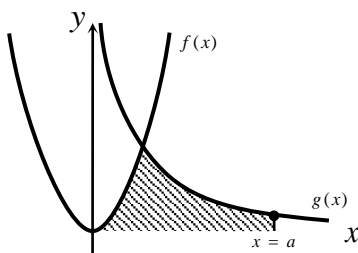
ברביע הראשון.

נעביר ישר $x = a$, החותך את גרף הפונקציה $g(x)$

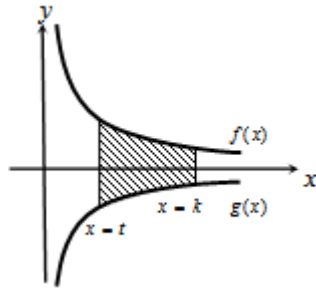
ויוצר את השטח הכלוא בין שני הגרפים,
 ציר ה- x והישר (השטח המסומן).

ידוע כי שטח זה שווה ל- $\frac{1}{3} \cdot 85$.

מצאו את a .



(24) באיור שלהלן מתוארים הגרפים של הפונקציות $f(x) = \frac{3}{\sqrt{x}}$ ו- $g(x) = -\frac{3}{\sqrt{x}}$.



נעביר שני ישרים $x=k$ ו- $x=t$, אשר חותכים את הגרפים של הפונקציות ויוצרים את הקטעים AB ו-CD.

ידוע כי $AB = 2CD$.

א. הראו כי $k = 4t$.

ב. השטח הכלוא בין הפונקציות

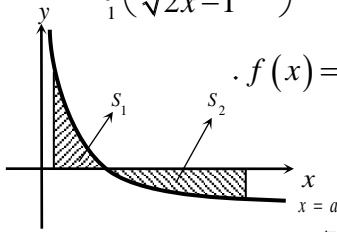
לבין הישרים $x=k$ ו- $x=t$, הוא $S = 12$.

מצאו את t .

(25) ענו על הסעיפים הבאים:

א. מצאו עבור איזה ערך של a , $(a > 1)$ יתקיים $\int_1^a \left(\frac{3}{\sqrt{2x-1}} - 1 \right) dx = 0$.

ב. באיור שלהלן מתואר גרף הפונקציה $f(x) = \frac{3}{\sqrt{2x-1}} - 1$. נעביר שני אנכים לציר ה- x , $x=1$ ו- $x=13$, כך שנוצרים השטחים S_1 ו- S_2 . מצאו את נקודת החיתוך של הפונקציה עם ציר ה- x .



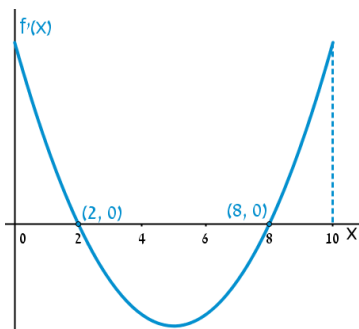
ג. ענו על תתי-הסעיפים הבאים:

1. חשבו את השטח הכלוא בין גרף הפונקציה,

ציר ה- x והאנך $x=1$, כלומר את S_1 .

2. היעזרו בתוצאה שהתקבלה ובסעיף א' וקבעו לכמה שווה השטח S_2 .

נמקו.



(26) הפונקציה $f(x)$ מוגדרת בתחום $0 \leq x \leq 10$.

בציור מתואר גרף הנגזרת $f'(x)$.

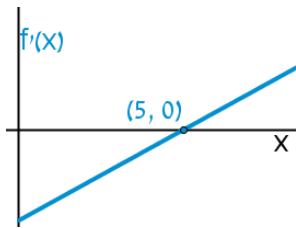
א. שרטטו סקיצה של גרף הפונקציה $f(x)$,

אם $f(2) = 6$, $f(0) = -4$, $f(5) = 0$,

וכן $f(10) > 0$.

ב. חשבו את השטח המוגבל ע"י גרף הנגזרת והצירים

ברביע הראשון, עד לנקודה שבה $x = 2$.



(27) להלן גרף הפונקציה $f'(x)$, אשר חותך את

ציר ה- x בנקודה אחת בלבד, $(5, 0)$.

א. מצאו את התחומים שבהם $f'(x)$ חיובית,

ואת התחומים שבהם היא שלילית.

ב. קבעו מהם תחומי העלייה והירידה של הפונקציה $f(x)$.

ג. כתבו את נקודת הקיצון של הפונקציה $f(x)$, אם ידוע כי שיעור ה- y

שלה הוא $y = -2$.

ד. שרטטו סקיצה של גרף הפונקציה $f(x)$, אם ידוע כי גרף הפונקציה

חותך את ציר ה- y כאשר $y = 8$.

ה. חשבו את השטח הכלוא בין גרף הנגזרת $f'(x)$ והצירים.

(28) באיור שלהלן מתוארת הנגזרת $f'(x)$.

א. האם לפונקציה $f(x)$ יש נקודות קיצון? נמקו.

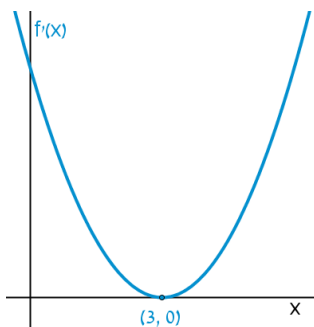
ב. שרטטו סקיצה של גרף הפונקציה $f(x)$,

אם ידוע כי $f(3) = 4$, וכי היא חותכת את

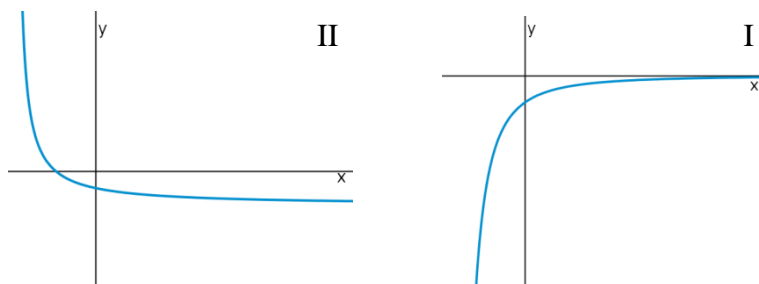
ציר ה- y בנקודה שבה $y = -5$.

ג. חשבו את השטח הכלוא בין גרף הנגזרת $f'(x)$

והצירים ברביע הראשון.



(29) באיורים שלהלן מתוארים גרפים של הפונקציות $f(x)$ ו- $f'(x)$:

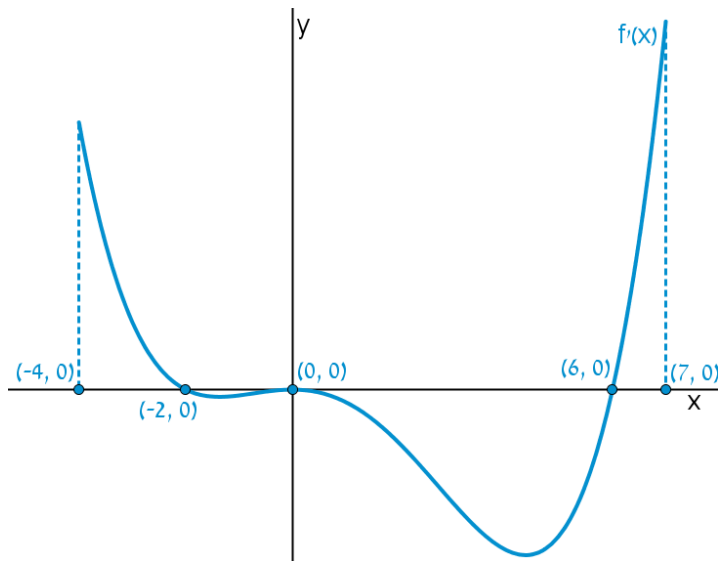


א. זהו איזה גרף שייך לאיזו פונקציה ונמקו.

ב. נתון $f(10) = -3$, וכי $f(x)$ חותכת את ציר ה- y בנקודה שבה $y = -2$.

מהו השטח המוגבל בין גרף הנגזרת $f'(x)$, הצירים והישר $x = 10$?

30 נתון גרף הנגזרת $f'(x)$:

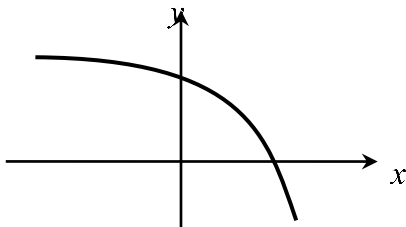


- א. שרטטו את גרף הפונקציה $f(x)$ בתחום $-4 \leq x \leq 7$, לפי הנתונים $f(0) = -2$, $f(-2) = 7.6$ ו- $f(6) = -606.8$.
- ב. חשבו את השטח המוגבל בין גרף הנגזרת וציר ה- x ברביע השלישי.
- ג. חשבו את השטח המוגבל בין גרף הנגזרת וציר ה- x ברביע הרביעי.

פונקציות מעריכיות

אינטגרלים מייזים של פונקציות מעריכיות

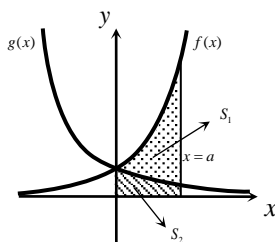
| אינטגרלים יסודיים | אינטגרלים של פונקציות מורכבות |
|---------------------------------------|---|
| $\int a^x dx = \frac{a^x}{\ln a} + c$ | $\int a^{mx+n} dx = \frac{a^{mx+n}}{m \cdot \ln a} + c$ |
| $\int e^x dx = e^x + c$ | $\int e^{mx+n} dx = \frac{e^{mx+n}}{m} + c$ |



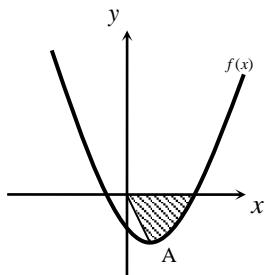
- (31)** נתונה הפונקציה $f(x) = 5 - e^x$.
 העבירו לפונקציה משיק ששיפועו $-e$.
 חשבו את גודל השטח הכלוא בין הפונקציה, המשיק וציר ה- x .
 ניתן להשאיר e ו- \ln בתשובה.

- (32)** נתונה הפונקציה $f(x) = e^{bx}$, כאשר $b > 0$.
 גודל השטח הכלוא בין הפונקציה, המשיק לפונקציה העובר בראשית הצירים וציר ה- y הוא $\frac{e-2}{4}$.
 מצאו את ערכו של הפרמטר b .

- (33)** נתונות הפונקציות $f(x) = e^{-x}$ ו- $g(x) = e^{\frac{1}{2}x}$.
 מנקודה הנמצאת על גרף הפונקציה $g(x)$ ברביע הראשון הורידו אנך לשני הצירים. המשך האנך לציר ה- y חותך את הפונקציה $f(x)$, ומנקודת החיתוך יורד אנך נוסף לציר ה- x , כך שנוצר מלבן. הוכיחו כי שטחו המקסימלי של מלבן כזה הוא $\frac{3}{e}$.

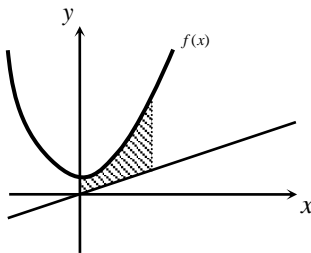


- (34)** באיור שלהלן מתוארים גרפים של הפונקציות $f(x) = e^{2x}$ ו- $g(x) = e^{-2x}$.
 נעביר אנך לציר ה- x את הישר $x = a$, כאשר $a > 0$, כמתואר באיור.
 אנך זה יוצר את השטחים S_1 ו- S_2 .
 ידוע כי השטח S_1 גדול פי 3 מהשטח S_2 .
 מצאו את a .



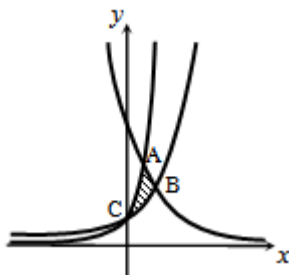
(35) נתונה הפונקציה $f(x) = e^{2x-1} - 2ex - 2$.

- הנקודה A היא נקודת המינימום של הפונקציה.
 א. מצאו את שיעורי הנקודה A.
 מחברים את הנקודה A עם ראשית הצירים.
 ב. כתבו את משוואת הישר המחבר את הנקודה A עם הראשית.
 ג. חשבו את השטח הכלוא בין גרף הפונקציה, הישר וציר ה-x, אם ידוע כי גרף הפונקציה חותך את ציר ה-x בנקודה שבה $x = 1.7$.



(36) נתונה הפונקציה $f(x) = \frac{e^x + e^{ax}}{4}$.

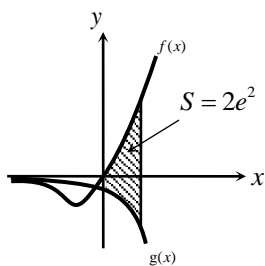
- ידוע כי הפונקציה עוברת דרך הנקודה $(1, \frac{e^3 + 1}{4e^2})$.
 א. מצאו את a וכתבו את הפונקציה.
 ב. באיור שלהלן מתואר גרף הפונקציה $f(x)$, והישר $y = 0.1x$.
 חשבו את השטח המוגבל בין גרף הפונקציה, הישר, ציר ה-y והאנך $x = 2$.



(37) באיור שלהלן מתוארים גרפים של שלוש פונקציות:

$$1. f(x) = 2^x \quad 2. g(x) = 4^x \quad 3. h(x) = 2^{4-2x}$$

- א. קבעו איזה גרף מתאר כל פונקציה.
 ב. מצאו את שיעורי הנקודות A, B ו-C (נקודות החיתוך בין הגרפים).
 ג. חשבו את השטח המסומן באיור.



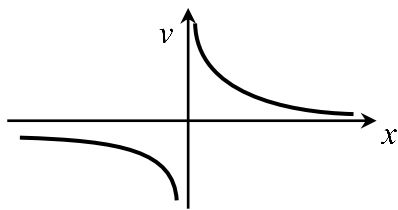
(38) ענו על הסעיפים הבאים:

- א. גזרו את הפונקציה $y = e^x(x-1)$.
 ב. באיור שלהלן מתוארים גרפים של הפונקציות $f(x) = xe^x - 1$ ו- $g(x) = -e^x$.
 נעביר ישר $x = a$, כאשר $a > 0$, החותך את הגרפים של שתי הפונקציות ויוצר את השטח הכלוא בין הגרפים של שניהם, ציר ה-y והישר (מקווקו).
 ידוע כי שטח זה שווה ל- $2e^2$.
 מצאו את a.

פונקציות לוגריתמיות

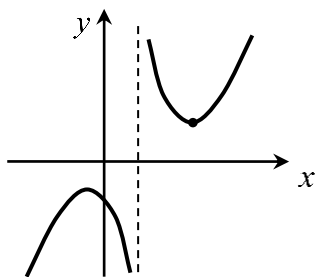
אינטגרלים מייזים של פונקציות לוגריתמיות

| אינטגרל יסודי | אינטגרל של פונקציה מורכבת |
|------------------------------------|--|
| $\int \frac{1}{x} dx = \ln x + c$ | $\int \frac{1}{ax+b} dx = \frac{1}{a} \ln ax+b + c$ |



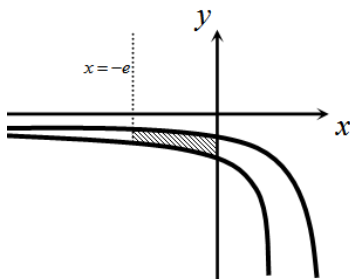
(39) נתונה הפונקציה $f(x) = \frac{1}{x}$.

חשבו את גודל השטח הכלוא בין הפונקציה, הישרים $x = -1$ ו- $x = -4$ וציר ה- x . ניתן להשאיר \ln בתשובה.



(40) נתונה הפונקציה $f(x) = \frac{x^2 + 3}{x - 1}$.

חשבו את גודל השטח הכלוא בין גרף הפונקציה, המשיק לפונקציה בנקודה שבה $x = 2$, ואנך לציר ה- x העובר בנקודת המינימום שלה. אפשר להשאיר ביטוי עם \ln בתשובה.

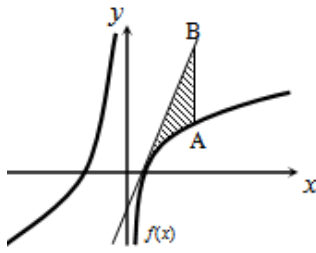


(41) באיור שלהלן נתונות הפונקציות $f(x) = \frac{a}{x-1}$

ו- $g(x) = \frac{a-1}{x-2}$, בתחום $x < 0$.

ידוע כי הגרפים של הפונקציות נחתכים בנקודה שבה $x = 3$.

- מצאו את a וכתבו את שתי הפונקציות.
- חשבו את השטח המוגבל ע"י הגרפים של שתי הפונקציות, ציר ה- y והישר $x = -e$.

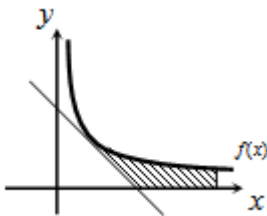


(42) נתונה הפונקציה $f(x) = 7 + ax + \frac{b}{x}$.

ידוע כי משוואת המשיק לגרף הפונקציה בנקודת החיתוך שלה עם ציר ה- x היא $y = 18x - 9$.
 א. מצאו את a ו- b וכתבו את הפונקציה.

נעביר ישר המקביל לציר ה- y , שחותך את גרף הפונקציה בנקודה A, ואת משוואת המשיק בנקודה B. אורך הקטע AB הוא 18.

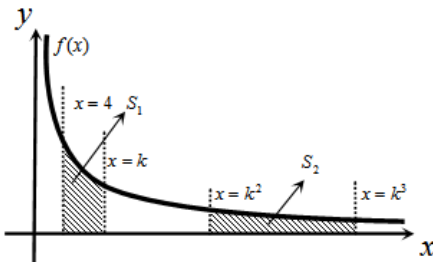
- ב. מצאו את משוואת הישר הנ"ל, אם ידוע כי הנקודה A נמצאת מימין לנקודת החיתוך של גרף הפונקציה עם ציר ה- x .
 ג. חשבו את השטח המוגבל בין גרף הפונקציה, המשיק והישר.



(43) נגזרת הפונקציה $f(x)$ היא $f'(x) = -\frac{4}{x^2}$.

משוואת המשיק לגרף הפונקציה בנקודה שבה $x = 2$ היא $y = 4 - x$.
 א. מצאו את $f(x)$.

- ב. באיור שלהלן מתוארים גרף הפונקציה $f(x)$ ומשיק, בתחום $x > 0$.
 חשבו את השטח המוגבל בין גרף הפונקציה, המשיק, ציר ה- x והישר $x = e^2$.



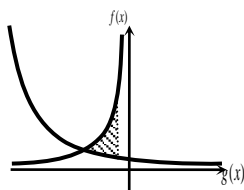
(44) באיור שלהלן נתונה הפונקציה

$$f(x) = \frac{2}{x}, \quad x > 0$$

נעביר את הישרים $x = k$, $x = k^2$, $x = k^3$ ו- $x = 4$ ($x > 4$).

א. הביעו באמצעות k את השטחים S_1 ו- S_2 .

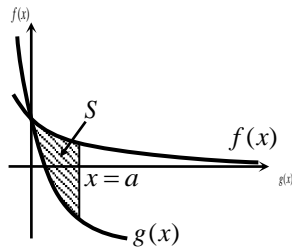
- ב. הראו כי ההפרש $S_2 - S_1$ אינו תלוי ב- k , וחשבו את ערכו.
 ג. נתון כי השטח S_2 גדול פי 3 מהשטח S_1 . מצאו את k .



(45) נתונות הפונקציות $f(x) = -\frac{4}{x}$ ו- $g(x) = \frac{k}{2x+5}$.

גרף $g(x)$ חותך את ציר ה- y בנקודה שבה $y = 0.4$.
 א. מצאו את הפונקציה $g(x)$.

- ב. מצאו את נקודת החיתוך של שני הגרפים.
 ג. חשבו את השטח המוגבל ע"י שני הגרפים והישר $x = -1$.



46 באיור שלהלן מתוארים גרפים של הפונקציות
 $f(x) = \ln(e^{-x} + 1)$ ו- $g(x) = \ln(e^{-2x} + e^{-3x})$
 בתחום $x \geq 0$.

א. הראו כי הגרפים נחתכים על ציר ה- y .

ב. נעביר ישר $x = a$ ($a > 1$), המאונך

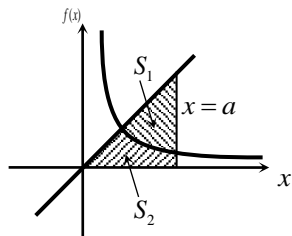
לציר ה- x , חותך את הגרפים של שתי

הפונקציות ויוצר את השטח S (ראה איור).

מצאו את ערכו של a , עבורו מתקיים $S = 4$.

47 באיור שלהלן מתוארים גרפים של הפונקציה $f(x) = \frac{2}{3x-1}$ והישר $y = x$.

א. מצאו את נקודת החיתוך של הפונקציה והישר, ברביע הראשון.



נעביר אנך לציר ה- x , $x = a$, הנמצאו מימין

לנקודת החיתוך שמצאת בסעיף הקודם.

האנך חותך את הגרפים ויוצר את השטחים

S_1 ו- S_2 , המתוארים באיור.

ב. מצאו את הערך של a , עבורו השטח S_2

$$\text{יהיה שווה ל-} \frac{1}{2} + \frac{2}{3} \ln 7.$$

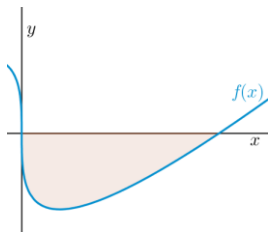
ג. עבור ערך ה- a שנמצא בסעיף הקודם, חשבו את יחס השטחים $\frac{S_1}{S_2}$.

פונקציית חזקה עם מעריך רציונאלי

אינטגרלים מייזים של פונקציית חזקה עם מעריך רציונאלי

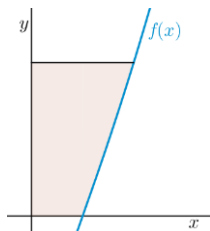
| אינטגרל יסודי | אינטגרל של פונקציה מורכבת |
|---|---|
| $\int \sqrt[n]{x^m} dx = \int x^{\frac{m}{n}} dx = \frac{x^{\frac{m}{n}+1}}{\frac{m}{n}+1} + c$ | $\int \sqrt[n]{(ax+b)^m} dx = \int (ax+b)^{\frac{m}{n}} dx = \frac{(ax+b)^{\frac{m}{n}+1}}{a \cdot \left(\frac{m}{n}+1\right)} + c$ |

תנאי לקיום האינטגרציה $\frac{m}{n} \neq -1$.



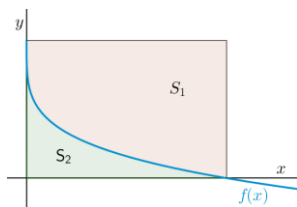
(48) באיור שלהלן מופיע גרף הפונקציה $f(x) = x - 4\sqrt[3]{x}$.

- א. מצאו את נקודות החיתוך של הפונקציה עם ציר ה- x .
 ב. חשבו את השטח הנוצר בין גרף הפונקציה והצירים.



(49) באיור שלהלן מופיע גרף הפונקציה $f(x) = \frac{x^2 - 4}{\sqrt{x}}$.

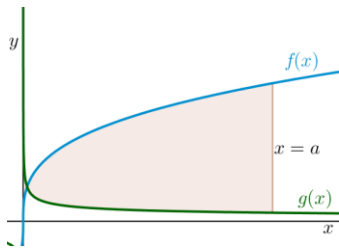
- א. מהו תחום ההגדרה של הפונקציה?
 ב. מצאו את נקודת החיתוך של הפונקציה עם ציר ה- x .
 ג. נעביר אנך לציר ה- y מהנקודה $(4, 6)$.
 חשבו את השטח הנוצר בין גרף הפונקציה, האנך והצירים, ברביע הראשון.



(50) באיור שלהלן מתואר גרף הפונקציה $f(x) = 2 - \sqrt[4]{x}$.

- נעביר אנכים לצירים מנקודות החיתוך של גרף הפונקציה עם הצירים, כך שנוצר מלבן, ונסמן את השטח שבין גרף הפונקציה והצירים ב- S_1 , ואת השטח שבין גרף הפונקציה והאנכים ב- S_2 .

מצאו את היחס $\frac{S_1}{S_2}$.



51) באיור שלהלן מתוארים גרפים של הפונקציות

$$f(x) = 4\sqrt[3]{x} \quad \text{ו-} \quad g(x) = \frac{1}{\sqrt[3]{x}}$$

א. מצאו את נקודת החיתוך של הגרפים

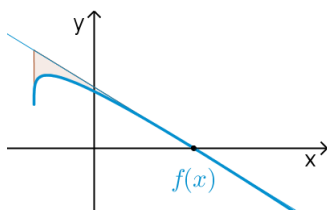
בתחום $x > 0$.

ב. נעביר אנך לציר ה- x , $x = a$ (פרמטר).

ידוע כי השטח שנוצר בין שני הגרפים, מנקודת החיתוך שלהם ועד לאנך,

הוא $42\frac{3}{16}$ יח"ש.

מצאו את a .



52) נתונה הפונקציה $f(x) = \sqrt[4]{5x+6} - ax$, פרמטר a .

ידוע כי גרף הפונקציה חותך את ציר ה- x בנקודה

שבה $x = 2$.

א. מצאו את הפרמטר a וכתבו את הפונקציה.

ב. מהו תחום ההגדרה של הפונקציה?

ג. מצאו את נקודת קיצון בקצה של הפונקציה.

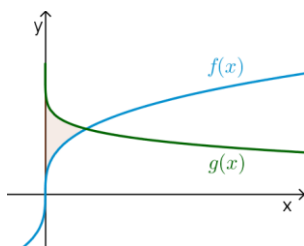
ד. מצאו את משוואת המשיק לגרף הפונקציה, העובר דרך נקודת החיתוך שלה עם ציר ה- x .

ה. באיור שלהלן מתואר גרף הפונקציה $f(x)$ והמשיק שמצאנו בסעיף

הקודם. נוריד אנך מהמשיק אל נקודת הקיצון בקצה של הפונקציה

שמצאנו בסעיף ג'.

חשבו את השטח הנוצר בין גרף הפונקציה $f(x)$ והמשיק.



53) באיור שלהלן נתונים גרפים של הפונקציות

$$f(x) = \sqrt[3]{x} - 1 \quad \text{ו-} \quad g(x) = 2 - \sqrt{x}$$

א. מצאו את נקודת החיתוך של הגרפים.

ב. חשבו את השטח הכלוא בין שני הגרפים

וציר ה- y .

54) הנגזרת של $f(x)$ היא $f'(x) = -\frac{1}{\sqrt[5]{(6-5x)^4}}$.

ידוע כי הפונקציה חותכת את ציר ה- x

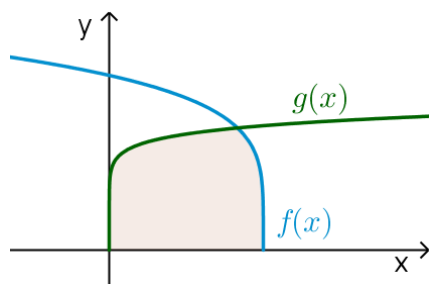
בנקודה שבה $x = 1.2$.

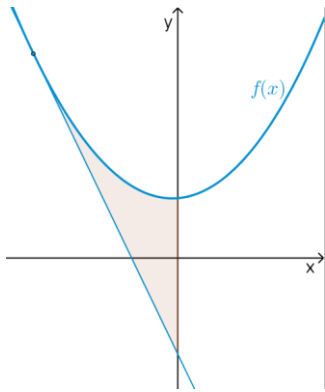
א. מצאו את $f(x)$.

ב. חשבו את השטח הכלוא בין גרף

הפונקציה $f(x)$, גרף הפונקציה

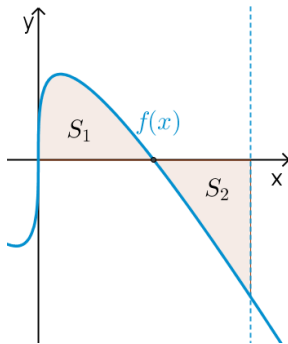
$g(x) = \sqrt[10]{x}$ וציר ה- x .





55) נתונה הפונקציה $f(x) = \frac{3}{\sqrt[3]{5-x}} + \frac{1}{2}x^2$.

- א. מצאו את משוואת המשיק לגרף הפונקציה בנקודה שבה $x = -3$.
- ב. חשבו את השטח הכלוא בין גרף הפונקציה $f(x)$, המשיק וציר ה- y .



56) נתונה הפונקציה $f(x) = \sqrt[3]{x} - 4x$.

- א. מהו תחום ההגדרה של הפונקציה?
- ב. מצאו את נקודות החיתוך של הפונקציה עם ציר ה- x .
- ג. באיור שלהלן מתואר גרף הפונקציה ברביע הראשון. השטח הכלוא בין גרף הפונקציה וציר ה- x יסומן ב- S_1 . נעביר ישר $x = k$, אשר יוצר את השטח S_2 , כמתואר באיור. מצאו את k , אם ידוע כי $S_1 = S_2$.

תשובות סופיות

- (1) $57\frac{1}{6}$ יח"ש.
- (2) $21\frac{1}{3}$ יח"ש.
- (3) א. $f(x) = I$, $g(x) = II$ ב. שאלת הוכחה.
- (4) $\frac{2}{3}$ יח"ש.
- (5) א. $y = -x$ ב. $(-3, 3)$ ג. $7\frac{5}{6}$ יח"ש.
- (6) א. $y = -4x + 4$ ב. $(1, 0)$ ג. $\frac{2}{3}$ יח"ש.
- (7) א. $k = 10$ ב. $(1, 9)$ ג. $81\frac{1}{3}$ יח"ש.
- (8) א. $f(x) = -x^2 + 3x + 10$ ב. $27\frac{1}{6}$ יח"ש.
- (9) א. $g(x) = (x-4)^2$ ב. $5\frac{1}{3}$ יח"ש.
- (10) א. $f(x) = x^2 - 6x$ ב. $(0, 0)$ ג. $85\frac{1}{3}$ יח"ש.
- (11) א. $y = -x + 2$ ב. $\frac{1}{8}$ יח"ש.
- (12) 1 יח"ש.
- (13) א. $a = 32$, $(2, 8)$ ב. $13\frac{1}{3}$ יח"ש.
- (14) א. $a = 36$, $f(x) = \frac{36-x^2}{x^2}$ ב. 8 יח"ש.
- (15) א. $A = 6$ ב. $y = -\frac{1}{9}x + \frac{1}{6}$ ג. הוכחה. ד. $(-1.5, \frac{2}{3})$ ה. $\frac{5}{8}$ יח"ש.
- (16) א. $\min(0.5, 1.5)$ ב. 1.75 יח"ש.
- (17) א. $(4, 8)$ ב. 48 יח"ש.
- (18) 2.26 יח"ש.
- (19) 0.5 יח"ש.
- (20) $t = 16$
- (21) א. i. $x > 0$ ii. $(4, 0)$ iii. $f'(x) = 1 + \frac{4}{x\sqrt{x}} > 0$ ב. $(16, 14)$ ג. 88 יח"ש.
- (22) $b = 2$
- (23) $a = 9$

- (24) א. שאלת הוכחה. ב. $t=1$.
- (25) א. $a=13$. ב. $(5,0)$. ג. i. $S_1=2$. ii. $S_2=|-S_1|=2$.
- (26) ב. 10 יח"ש.
- (27) א. חיובית: $x>5$, שלילית: $x<5$. ב. עולה: $x>5$, יורדת: $x<5$. ג. $\min(5,-2)$. ד. שאלת הוכחה. ה. 10 יח"ש.
- (28) א. לא. הנקודה $(3,0)$ היא פיתול, מכיוון שהפונקציה עולה לפנייה ואחריה. ב. שאלת הוכחה. ג. 9 יח"ש. ד. 1 יח"ש.
- (29) א. $f(x): \mathbb{R}, f'(x): \mathbb{I}$. ב. 1 יח"ש. ג. 604.8 יח"ש.
- (30) א. שאלת הוכחה. ב. 9.6 יח"ש. ג. 604.8 יח"ש.
- (31) $S=0.192$ יח"ש.
- (32) $b=2$.
- (33) שאלת הוכחה.
- (34) $a=\ln 2$.
- (35) א. $A(1,-e-2)$. ב. $y=-(e+2)x$. ג. $S=4.744$ יח"ש.
- (36) א. $f(x)=\frac{e^x+e^{-2x}}{4}, a=-2$. ב. 1.52.
- (37) א. $A(1,4), B\left(1\frac{1}{3}, 2.52\right), C(0,1)$. ב. $S=1.03$ יח"ש.
- (38) א. $y'=xe^x$. ב. $a=2$.
- (39) $S=\ln 4$ יח"ש.
- (40) $S=4\ln 2-2$ יח"ש.
- (41) א. $f(x)=\frac{2}{x-1}, g(x)=\frac{1}{x-2}, a=2$. ב. $S=1.76$ יח"ש.
- (42) א. $f(x)=7+2x-\frac{4}{x}, a=2, b=-4$. ב. $x=2$. ג. $S=6+\ln 256 \approx 11.54$ יח"ש.
- (43) א. $f(x)=\frac{4}{x}$. ב. $S=6-4\ln 2$ יח"ש.
- (44) א. $S_1=2\ln k - \ln 16, S_2=2\ln k$. ב. $S_2-S_1=\ln 16$. ג. $k=8$.
- (45) א. $g(x)=\frac{2}{2x+5}$. ב. $(-2,2)$. ג. $S=\ln 5\frac{1}{3} \approx 1.674$ יח"ש.
- (46) ב. $a=2$.
- (47) א. $(1,1)$. ב. $a=5$. ג. $\frac{S_1}{S_2}=5.955$.
- (48) א. $(0,0), (8,0)$. ב. $S=16$ יח"ש.
- (49) א. $x>0$. ב. $(2,0)$. ג. $S=18.149$ יח"ש.

$$\frac{S_1}{S_2} = 4 \quad (50)$$

$$a = 8 \quad \text{ב.} \quad \left(\frac{1}{8}, 2\right) \quad \text{א.} \quad (51)$$

$$(-1.2, 1.2) \quad \text{ג.} \quad x \geq -1.2 \quad \text{ב.} \quad f(x) = \sqrt[4]{5x+6} - x, \quad a = 1 \quad \text{א.} \quad (52)$$

$$S = 4.56 \quad \text{ה.} \quad \text{יח"ש.} \quad y = -\frac{27}{32}x + \frac{27}{16} \quad \text{ד.} \quad (53)$$

$$S = \frac{11}{28} \quad \text{ב.} \quad \text{יח"ש.} \quad (1, 1) \quad \text{א.} \quad (54)$$

$$S = 1\frac{5}{66} \quad \text{ב.} \quad \text{יח"ש.} \quad f(x) = (6-5x)^{\frac{1}{5}} \quad \text{א.} \quad (55)$$

$$S = 4.56 \quad \text{ב.} \quad \text{יח"ש.} \quad y = -2\frac{15}{16}x - \frac{45}{16} \quad \text{א.} \quad (56)$$

$$k = \left(\frac{3}{8}\right)^{1.5} = 0.2296\dots \quad \text{ג.} \quad (0, 0), \left(\frac{1}{8}, 0\right), \left(-\frac{1}{8}, 0\right) \quad \text{ב.} \quad \text{א.} \quad \text{כל } x \quad (57)$$

חישוב שטחים ביחס לציר ה- y

שאלות

(1) חשבו את השטח הכלוא בין הפרבולה $y^2 = -x$ והישר $y = x + 6$.

(2) חשבו את השטח הכלוא בין הפרבולה $x = y^2 + 2$ והישר $y = x - 8$.

תשובות סופיות

(1) $20\frac{5}{6}$

(2) $20\frac{5}{6}$

אורך קשת

שאלות

חשבו את אורך העקום הנתון:

$$(1 \leq x \leq 8), y = x^{2/3} \quad \text{(2)}$$

$$(1 \leq x \leq 2), y = \frac{x^4}{8} + \frac{1}{4x^2} \quad \text{(1)}$$

$$(0 \leq x \leq 3), y = \frac{2}{3}(1+x^2)^{3/2} \quad \text{(4)}$$

$$(1 \leq x \leq 2), y = \frac{x^5}{15} + \frac{1}{4x^3} \quad \text{(3)}$$

$$(1 \leq x \leq 8), x^{2/3} + y^{2/3} = 4 \quad \text{(6)}$$

$$(0 \leq x \leq 3), y = \frac{1}{3}\sqrt{x}(3-x) \quad \text{(5)}$$

$$(1 \leq x \leq 2), y = \ln x \quad \text{(8)}$$

$$(0 \leq y \leq 4), x = 3y^{3/2} - 1 \quad \text{(7)}$$

$$(1 \leq x \leq 2), y = x^2 \quad \text{(9)}$$

תשובות סופיות

$$\frac{33}{16} \quad \text{(1)}$$

$$\frac{1}{9} \left\{ \frac{40^{1.5}}{3} - \frac{13^{1.5}}{3} \right\} \quad \text{(2)}$$

$$\frac{1097}{480} \quad \text{(3)}$$

$$21 \quad \text{(4)}$$

$$\frac{1}{2} \left\{ 2\sqrt{3} + \frac{2}{3}3^{1.5} \right\} \quad \text{(5)}$$

$$9 \quad \text{(6)}$$

$$\frac{8}{243} \{82^{1.5} - 1\} \quad \text{(7)}$$

$$\left\{ \sqrt{5} + \frac{1}{2} \ln \left| \frac{\sqrt{5}-1}{\sqrt{5}+1} \right| \right\} - \left\{ \sqrt{2} + \frac{1}{2} \ln \left| \frac{\sqrt{2}-1}{\sqrt{2}+1} \right| \right\} \quad \text{(8)}$$

$$\sqrt{17} - \frac{\sqrt{5}}{2} + \frac{1}{4} \ln(\sqrt{17}+4) - \frac{1}{4} \ln(\sqrt{5}+2) \quad (\text{Decimal: } 3.16784) \quad \text{(9)}$$

חשבון דיפרנציאלי ואינטגרלי ב

פרק 8 - המשפט היסודי של החדו"א

תוכן העניינים

1. המשפט היסודי של החדו"א - תרגילי חישוב 55

המשפט היסודי של החדו"א – תרגילי חישוב

שאלות

בשאלות 1 ו-2, על סמך המשפט היסודי של החדו"א, הוכיחו כי אם $f(x)$ רציפה וגם $a(x)$ ו- $b(x)$ גזירות, אזי:

$$I(x) = \int_a^{b(x)} f(t) dt \Rightarrow I'(x) = f(b(x))b'(x) \quad (1)$$

$$I(x) = \int_{a(x)}^{b(x)} f(t) dt \Rightarrow I'(x) = f(b(x))b'(x) - f(a(x))a'(x) \quad (2)$$

גזרו את הפונקציות בשאלות 3-6:

$$I(x) = \int_1^{x^3} \frac{\ln t}{t^2} dt \quad (4)$$

$$I(x) = \int_2^x e^{-t^2} dt \quad (3)$$

$$I(x) = \int_{x^3}^{x^2} \frac{dt}{\sqrt{1+t^4}} \quad (6)$$

$$I(x) = \int_2^{x^3+x} t \ln t dt \quad (5)$$

חשבו את הגבולות בשאלות 7-9:

$$\lim_{x \rightarrow 4} \frac{x}{x-4} \int_4^x e^{t^2} dt \quad (9)$$

$$\lim_{x \rightarrow 0^+} \frac{1}{x^3} \int_0^{x^2} \sin \sqrt{t} dt \quad (8)$$

$$\lim_{x \rightarrow 0} \frac{\int_0^x t dt}{\sin^2 x} \quad (7)$$

$$(10) \text{ חשבו את הגבול } \lim_{x \rightarrow \infty} \frac{\left(\int_0^x e^{t^2} dt \right)^2}{\int_0^x e^{2t^2} dt}$$

11 חקרו את הפונקציה $F(x) = \int_0^x (t+1)^4 (t-1)^{10} dt$, לפי הפירוט הבא:

תחום הגדרה, נקודות קיצון ותחומי עלייה וירידה, נקודות פיתול ותחומי קמירות וקעירות.

12 נתונה הפונקציה $g(t) = \int_0^{t^2-1} f(x) dx$, כאשר $f(x) = 2 + \int_0^x (e^{y^2} + 2)^2 dy$.

חשבו את $g'(1)$ (הניחו כי f רציפה).

13 תהי $f: \mathbb{R} \rightarrow \mathbb{R}$ פונקציה רציפה.

נגדיר $g(x) = \int_0^x (x-t)f(t) dt$ לכל $x \in \mathbb{R}$.

הוכיחו כי $g''(x) = f(x)$ לכל $x \in \mathbb{R}$.

14 תהי $f: \mathbb{R} \rightarrow \mathbb{R}$ פונקציה רציפה, ויהי $\alpha \neq 0$.

נגדיר $g(x) = \frac{1}{\alpha} \int_0^x f(t) \sin[\alpha(x-t)] dt$ לכל $x \in \mathbb{R}$.

הוכיחו כי $f(x) = g''(x) + \alpha^2 g(x)$ לכל $x \in \mathbb{R}$.

15 תהי f פונקציה רציפה וחיובית לכל $x \geq 0$.

הוכיחו כי הפונקציה $z(x) = \frac{\int_0^x f(t) dt}{\int_0^x t f(t) dt}$ מונוטונית יורדת בקטע $[0, \infty)$.

16 מצאו את $\int_e^4 f(x) dx$, אם נתון כי $\int_2^x \frac{1}{t-1} dt + 2 \int_2^x f(t) dt = \int_2^x \frac{t^3 - t + 2}{t^2 - t} dt$.

17 מצאו את משוואת המשיק לגרף הפונקציה $F(x) = \int_0^{\sin x} e^{t^2} dt$, בנקודה $x_0 = 2\pi$.

תשובות סופיות

(1) שאלת הוכחה.

(2) שאלת הוכחה.

(3) $I'(x) = e^{-x^2}$

(4) $I'(x) = \frac{\ln(x)^3}{(x^3)^2} \cdot 3x^2$

(5) $I'(x) = (x^3 + x)(3x^2 + 1)\ln(x^3 + x)$

(6) $I'(x) = \frac{2x}{\sqrt{1+x^8}} - \frac{3x^2}{\sqrt{1+x^{12}}}$

(7) $\frac{1}{2}$

(8) $\frac{2}{3}$

(9) $4e^{16}$

(10) 0

(11) תחום הגדרה: כל x .נקודות קיצון: אין קיצון, עולה לכל x .

נקודות פיתול: $x = -1, 1, -\frac{3}{7}$.

תחומי קמירות: $x > 1$, $-1 < x < -\frac{3}{7}$.

תחומי קעירות: $-1 < x < -\frac{3}{7}$, $x < -1$.

(12) 40

(13) שאלת הוכחה.

(14) שאלת הוכחה.

(15) שאלת הוכחה.

(16) $14 - 2\ln 4 - \frac{1}{2}e^2 - e$

(17) $y = x - 2\pi$

חשבון דיפרנציאלי ואינטגרלי ב

פרק 9 - קווים ותחומים במישור, משטחים וגופים במרחב

תוכן העניינים

| | |
|----|---------------------------------------|
| 58 | 1. קווים ותחומים במישור |
| 62 | 2. קווים ותחומים במישור בהצגה פרמטרית |
| 68 | 3. גופים במרחב |
| 71 | 4. נספח – משטחים ממעלה שנייה |

קווים ותחומים במישור

שאלות

1) שרטטו במישור את התחומים הבאים :

א. $S = \{(x, y) \mid -1 \leq x \leq 1, -1 \leq y \leq 4\}$

ב. $S = \{(x, y) \mid -1 \leq x^2 \leq 1, -1 \leq y \leq 4\}$

ג. $S = \{(x, y) \mid x \leq y \leq 4\}$

2) שרטטו במישור את התחומים הבאים :

א. $S = \{(x, y) \mid x - 1 \leq y \leq 2x + 1\}$

ב. $S = \{(x, y) \mid |y - 2x| \leq 1\}$

ג. $S = \{(x, y) \mid |x| + y < 4\}$

ד. $S = \{(x, y) \mid (x + y)^2 \leq 4, x > 1\}$

3) מצאו את המרכז והרדיוס של המעגלים הבאים :

א. $x^2 + y^2 - 2x - 3 = 0$

ב. $x^2 + y^2 - 8y = -15$

ג. $x^2 + y^2 + 2x + 4y = 0$

4) בכל אחד מהסעיפים הבאים חלק ממעגל. שרטטו אותו.

א. $y = \sqrt{1 - x^2}$

ב. $y = -\sqrt{1 - x^2}$

ג. $x = \sqrt{1 - y^2}$

ד. $x = -\sqrt{1 - y^2}$

ה. $0 \leq x \leq 1 \quad y = \sqrt{1 - x^2}$

ו. $-\frac{3}{5} \leq x \leq \frac{3}{5} \quad y = \sqrt{1 - x^2}$

5) בכל אחד מהסעיפים הבאים חלק ממעגל. שרטטו אותו.

א. $y = 2 + \sqrt{1 - (x-3)^2}$

ב. $y = 2 - \sqrt{-x^2 + 6x - 8}$

ג. $x \geq 3.5, \quad x = 4 - \sqrt{1 - y^2}$

6) שרטטו את התחומים הבאים במישור:

א. $S = \{(x, y) \mid x^2 + y^2 \leq 4\}$

ב. $S = \{(x, y) \mid x^2 + y^2 < 4\}$

ג. $S = \{(x, y) \mid x^2 + y^2 \geq 4\}$

ד. $S = \{(x, y) \mid x^2 + y^2 > 4\}$

ה. $S = \{(x, y) \mid -\sqrt{4-x^2} \leq y \leq \sqrt{4-x^2}\}$

ו. $S = \{(x, y) \mid -\sqrt{4-y^2} \leq x \leq \sqrt{4-y^2}\}$

ז. $S = \{(x, y) \mid 0 \leq y \leq \sqrt{4-x^2}\}$

ח. $S = \{(x, y) \mid -\sqrt{4-y^2} \leq x \leq 0\}$

7) שרטטו את התחומים הבאים במישור:

א. $S = \{(x, y) \mid 1 \leq x^2 + y^2 \leq 4\}$

ב. $S = \{(x, y) \mid 1 \leq x^2 + y^2 \leq 4, x \geq 0, y \geq 0\}$

ג. $S = \{(x, y) \mid 1 \leq x^2 + y^2 \leq 4, x \geq 0\}$

ד. $S = \{(x, y) \mid 1 \leq x^2 + y^2 \leq 4, y \geq 0\}$

8) שרטטו את התחומים הבאים במישור:

א. $S = \{(x, y) \mid x^2 + y^2 - 2x + 4y + 1 \leq 0\}$

ב. $S = \{(x, y) \mid 0 \leq y + 1 \leq \sqrt{1 - x^2}\}$

9 שרטטו את התחומים הבאים במישור :

א. $S = \{(x, y) \mid 1 \leq x^2 + y^2 \leq 4, x \leq y \leq 2x\}$

ב. $S = \{(x, y) \mid x^2 + y^2 \leq 4, y \geq x\}$

ג. $S = \{(x, y) \mid \frac{1}{7}x + \frac{25}{7} \leq y \leq \sqrt{25 - x^2}\}$

ד. $S = \{(x, y) \mid x^2 + y^2 \leq 4, y \geq x^2\}$

ה. $S = \{(x, y) \mid x^2 \leq y \leq \sqrt{4 - x^2}\}$

ו. $S = \{(x, y) \mid |x - 1| \leq y \leq \sqrt{1 - (x - 1)^2}\}$

10 נתונה המשוואה $25x^2 + 4y^2 - 50x + 16y = 59$.

- א. הוכיחו שהמשוואה מתארת אליפסה ושרטטו אותה.
 ב. רשמו את הפונקציות שמתארות את החצי העליון ואת החצי התחתון של האליפסה.
 ג. רשמו את הפונקציות שמתארות את החצי הימני ואת החצי השמאלי של האליפסה.
 ד. מהי קבוצת כל הנקודות במישור, החסומה בתוך האליפסה או עליה?
 ה. מהי קבוצת כל הנקודות במישור, החסומה בתוך האליפסה ומעל לציר המשני שלה?

11 שרטטו את התחומים הבאים במישור :

א. $S = \{(x, y) \mid 4x^2 + y^2 + 8x - 4y + 4 \geq 0\}$

ב. $S = \{(x, y) \mid 0 \leq y \leq \frac{2}{3}\sqrt{9 - x^2}\}$

ג. $S = \{(x, y) \mid \frac{1}{2}y + 1 \leq x \leq \frac{3}{2}\sqrt{4 - y^2}\}$

ד. $S = \{(x, y) \mid -\frac{2}{3}\sqrt{9 - x^2} \leq y \leq -x^2\}$

12) שרטטו את התחומים הבאים במישור:

א. $S = \{(x, y) \mid x^2 \leq y \leq 2 - x^2\}$

ב. $S = \{(x, y) \mid -2 \leq y \leq -x^2\}$

ג. $S = \{(x, y) \mid y^2 - 2 \leq x \leq -y^2\}$

ד. $S = \{(x, y) \mid y^2 \leq x \leq 1 - y\}$

13) שרטטו את התחומים הבאים במישור:

א. $\left\{ (x, y) \mid \frac{x^2}{4} - \frac{y^2}{9} \leq 1 \right\}$

ב. $\left\{ (x, y) \mid \frac{x^2}{4} - \frac{y^2}{9} \geq 1, x^2 + y^2 \leq 16 \right\}$

ג. $\left\{ (x, y) \mid \frac{x^2}{4} - \frac{y^2}{9} \geq 1, y \geq \frac{1}{4}x^2 \right\}$

ד. $\left\{ (x, y) \mid \frac{x^2}{4} - \frac{y^2}{9} \leq 1, x^2 + y^2 \geq 4 \right\}$

תשובות סופיות

לפתרונות מלאים ושרטוטים היכנסו לאתר GooL.co.il

קווים ותחומים במישור בהצגה פרמטרית

שאלות

1) עברו מן ההצגה הפרמטרית הנתונה, להצגה קרטזית:

א. $x = t^2 + 1, y = t^2$, $t \geq 0$

ב. $x = \sin t, y = \cos^2 t$, $0 \leq t \leq \pi$

ג. $x = \cos t, y = 4 \sin t$, $\pi \leq t \leq 2\pi$

2) להלן תיאור פרמטרי של מסלולים במישור. על ידי חילוץ של הפרמטר t , מצאו משוואה מתאימה שמבטאת כל מסלול באמצעות המשתנים x ו- y בלבד:

א. $x = t - 4, y = t^2$

ב. $x = -4 + \cos t, y = 1 + 2 \sin t$

ג. $x = 4 \cos^3 t, y = 4 \sin^3 t$

ד. $x = t(t+1)+1, y = t(0.5t+1)+1$

ה. $x = \frac{20t}{4+t^2}, y = \frac{20-5t^2}{4+t^2}$

ו. $x = ke^t + ke^{-t}, y = ke^t - ke^{-t}$ (קבוע k).

3) נתון המעגל $x^2 + y^2 = 8$.

א. שרטטו את המעגל ומצאו את משוואתו הפרמטרית.

ב. מצאו הצגה פרמטרית של חלק המעגל מהנקודה $A(2,2)$ לנקודה $B(-2,-2)$.

ג. מצאו הצגה פרמטרית של התחום D , המוגבל מעל הישר AB ומתחת למעגל.

ד. מצאו הצגה פרמטרית של התחום E , המוגבל בין המעגל הנתון למעגל $x^2 + y^2 = 16$.

$$(4) \quad \text{נתונים שני מעגלים } (x-8)^2 + (y-4)^2 = 25 \text{ ו- } x^2 + y^2 = 25.$$

- א. שרטטו את המעגלים, מצאו את משוואותיהם הפרמטריות ומצאו הצגה פרמטרית לתחום הכלוא בכל אחד מהמעגלים.
- ב. המעגלים נחתכים בשתי נקודות, A ו-B, ותהי הנקודה A בעלת ערך ה- y הגדול יותר.
- מצאו את ההצגה הפרמטרית של חלק המעגל בין A לבין B. הפרידו לשני מקרים.
- ג. מצאו הצגה אלגברית לתחום החסום בין שני המעגלים.

$$(5) \quad \text{נתונות משוואות של שתי אליפסות: } \begin{cases} \frac{x^2}{4} + \frac{y^2}{2} = 1 \\ \frac{x^2}{2} + \frac{y^2}{4} = 1 \end{cases}$$

- א. שרטטו את האליפסות ומצאו את הצגתן הפרמטרית.
- ב. האליפסות נחתכות ב-4 נקודות, מצאו אותן.
- ג. הקו המחבר את 4 הנקודות לעיל מורכב מ-4 מסילות.
- מצאו את ההצגה הפרמטרית של כל אחת מהמסילות.
- ד. מצאו הצגה פרמטרית של התחום, המוגבל בתוך שתי האליפסות.

$$(6) \quad \text{נתונה היפרבולה } 4x^2 - y^2 = 4.$$

- א. ההיפרבולה מורכבת משתי מסילות. מצאו את ההצגה האלגברית ואת ההצגה הפרמטרית של כל אחת מהמסילות.
- ב. הציגו באופן פרמטרי את התחום המוגבל בין ההיפרבולה לבין האסימפטוטות שלה.

$$(7) \quad \text{נתונה המשוואה } 3x^2 - y^2 = 3.$$

- א. איזה קו במישור מתארת המשוואה? שרטטו.
- ב. הקו מסעיף א' מורכב משתי מסילות. מצאו את ההצגה האלגברית ואת ההצגה הפרמטרית של כל אחת מהמסילות.
- ג. המסילה C היא חלק של הקו הנתון מהנקודה A(-2, -3) לנקודה B(-1, 0). כתבו את C בצורה פרמטרית.
- ד. מצאו את המרחק הקצר ביותר בין ציר ה- y למסילה C.

$$(8) \quad \text{חשבו את אורך העקום} \quad \begin{cases} x = t - \sin t \\ y = 1 - \cos t \end{cases} \quad . 0 \leq t \leq 2\pi$$

$$(9) \quad \text{חשבו את אורך העקום} \quad \begin{cases} x = 4 \sin t \\ y = 10t \\ z = 4 \cos t \end{cases} \quad . -\pi \leq t \leq 2\pi$$

תשובות סופיות

$$(1) \quad \text{א. } y = x - 1, x \geq 1 \quad \text{ב. } y = 1 - x^2, -1 \leq x \leq 1$$

$$\text{ג. } x^2 + \frac{y^2}{16} = 1, -1 \leq x \leq 1, y \leq 0$$

$$(2) \quad \text{א. } y = (x+4)^2 \quad \text{ב. } (x+4)^2 + \left(\frac{y-1}{2}\right)^2 = 1 \quad \text{ג. } x^{\frac{2}{3}} + y^{\frac{2}{3}} = 4^{\frac{2}{3}}$$

$$\text{ד. } x^2 - 4xy + 4y^2 = 2y - 1 \quad \text{ה. } x^2 + y^2 = 25 \quad \text{ו. } x^2 - y^2 = 4k^2$$

$$(3) \quad \begin{cases} x(t) = \sqrt{8} \cos t \\ y(t) = \sqrt{8} \sin t \end{cases} \quad \begin{matrix} \text{א. } 0 \leq t \leq 2\pi \\ \text{ב. } \frac{\pi}{4} \leq t \leq \frac{5\pi}{4} \end{matrix}$$

$$\text{ג. } \begin{cases} x(u, v) = \sqrt{8}u \cos v \\ y(u, v) = \sqrt{8}u \sin v \end{cases} \quad 0 \leq u \leq 1, \frac{\pi}{4} \leq v \leq \frac{5\pi}{4}$$

$$\text{ד. } \begin{cases} x(u, v) = u \cos v \\ y(u, v) = u \sin v \end{cases} \quad \sqrt{8} \leq u \leq 4, 0 \leq v \leq 2\pi$$

$$(4) \quad \text{א. המעגל } x^2 + y^2 = 25 \text{ : מרכז } (0, 0) \text{ . רדיוס : } 5.$$

$$\begin{cases} x(t) = 5 \cos t \\ y(t) = 5 \sin t \end{cases} \quad 0 \leq t \leq 2\pi \quad \text{הצגה פרמטרית של המעגל}$$

$$\begin{cases} x(u, v) = 5u \cos v \\ y(u, v) = 5u \sin v \end{cases} \quad 0 \leq u \leq 1, 0 \leq v \leq 2\pi \quad \text{הצגה פרמטרית של העיגול}$$

$$\text{המעגל } (x-8)^2 + (y-4)^2 = 25 \text{ : מרכז } (8, 4) \text{ . רדיוס : } 5.$$

$$\begin{cases} x(t) = 8 + 5 \cos t \\ y(t) = 4 + 5 \sin t \end{cases} \quad 0 \leq t \leq 2\pi \quad \text{הצגה פרמטרית של המעגל}$$

$$\begin{cases} x(u, v) = 8 + 5u \cos v \\ y(u, v) = 4 + 5u \sin v \end{cases} \quad 0 \leq u \leq 1, 0 \leq v \leq 2\pi \quad \text{הצגה פרמטרית של העיגול}$$

$$\text{ב. מקרה 1 : } \begin{cases} x(t) = 5 \cos t \\ y(t) = 5 \sin t \end{cases}, \quad 0 \leq t \leq \arctan\left(\frac{4}{3}\right)$$

$$\text{מקרה 2 - } \begin{cases} x = 8 + 5 \cos t \\ y = 4 + 5 \sin t \end{cases}, \quad \pi \leq t \leq \arctan\left(\frac{4}{3}\right) + \pi$$

$$\text{ג. } \{(x, y) \mid -\sqrt{25 - (y-4)^2} + 8 \leq x \leq \sqrt{25 - (y-4)^2}\}$$

$$(5) \quad \begin{cases} x(t) = 2 \cos t, y(t) = \sqrt{2} \sin t & 0 \leq t \leq 2\pi \\ x(t) = \sqrt{2} \cos t, y(t) = 2 \sin t & 0 \leq t \leq 2\pi \end{cases} \quad \text{א.}$$

$$\text{ב. } A\left(\frac{2}{\sqrt{3}}, \frac{2}{\sqrt{3}}\right), B\left(-\frac{2}{\sqrt{3}}, \frac{2}{\sqrt{3}}\right), C\left(-\frac{2}{\sqrt{3}}, -\frac{2}{\sqrt{3}}\right), D\left(\frac{2}{\sqrt{3}}, -\frac{2}{\sqrt{3}}\right)$$

$$\begin{cases} x(t) = \sqrt{2} \cos t \\ y(t) = 2 \sin t \end{cases} \quad \arctan\left(-\frac{1}{\sqrt{2}}\right) \leq t \leq \arctan\left(\frac{1}{\sqrt{2}}\right) \quad : DA \text{ המסילה ג.}$$

$$\begin{cases} x(t) = \sqrt{2} \cos t \\ y(t) = 2 \sin t \end{cases} \quad \arctan\left(-\frac{1}{\sqrt{2}}\right) + \pi \leq t \leq \arctan\left(\frac{1}{\sqrt{2}}\right) + \pi \quad : BC \text{ המסילה}$$

$$\begin{cases} x(t) = 2 \cos t \\ y(t) = \sqrt{2} \sin t \end{cases} \quad \arctan(\sqrt{2}) \leq t \leq \arctan(-\sqrt{2}) + \pi \quad : AB \text{ המסילה}$$

$$\begin{cases} x(t) = 2 \cos t \\ y(t) = \sqrt{2} \sin t \end{cases} \quad \arctan(\sqrt{2}) + \pi \leq t \leq \arctan(-\sqrt{2}) + 2\pi \quad : CD \text{ המסילה}$$

$$D = D_1 \cup D_2 \cup D_3 \cup D_4$$

$$D_1: \begin{cases} x(u, v) = \sqrt{2} \mathbf{u} \cos v \\ y(u, v) = 2 \mathbf{u} \sin v \end{cases}$$

$$0 \leq \mathbf{u} \leq 1, \arctan\left(-\frac{1}{\sqrt{2}}\right) \leq v \leq \arctan\left(\frac{1}{\sqrt{2}}\right)$$

$$D_3: \begin{cases} x(u, v) = \sqrt{2} \mathbf{u} \cos v \\ y(u, v) = 2 \mathbf{u} \sin v \end{cases}$$

$$0 \leq \mathbf{u} \leq 1, \arctan\left(-\frac{1}{\sqrt{2}}\right) + \pi \leq v \leq \arctan\left(\frac{1}{\sqrt{2}}\right) + \pi$$

$$D_2: \begin{cases} x(u, v) = 2 \mathbf{u} \cos v \\ y(u, v) = \sqrt{2} \mathbf{u} \sin v \end{cases}$$

$$0 \leq \mathbf{u} \leq 1, \arctan(\sqrt{2}) \leq v \leq \arctan(-\sqrt{2}) + \pi$$

$$D_4: \begin{cases} x(u, v) = 2 \mathbf{u} \cos v \\ y(u, v) = \sqrt{2} \mathbf{u} \sin v \end{cases} \quad .\text{ד}$$

$$0 \leq \mathbf{u} \leq 1, \arctan(\sqrt{2}) + \pi \leq v \leq \arctan(-\sqrt{2}) + 2\pi$$

$$(6) \quad \text{א. אלגברית: ימנית } x = \sqrt{1 + \frac{y^2}{4}}, \text{ שמאלית } x = -\sqrt{1 + \frac{y^2}{4}}$$

$$\cdot \begin{cases} x = -\cosh t \\ y = 2 \sinh t \end{cases} t \in \mathbb{R} : \text{שמאלית}, \begin{cases} x = \cosh t \\ y = 2 \sinh t \end{cases} t \in \mathbb{R} : \text{ימנית}$$

$$D = D_1 \cup D_2$$

$$D_1 : \begin{cases} x(u, v) = u \cosh v \\ y(u, v) = 2u \sinh v \end{cases} \quad 0 \leq u \leq 1, v \in \mathbb{R} \quad \text{ב.}$$

$$D_2 : \begin{cases} x(u, v) = -u \cosh v \\ y(u, v) = 2u \sinh v \end{cases} \quad 0 \leq u \leq 1, v \in \mathbb{R}$$

$$(7) \quad \text{א. היפרבולה. ב. אלגברית: ימנית } x = \sqrt{1 + \frac{y^2}{3}}, \text{ שמאלית } x = -\sqrt{1 + \frac{y^2}{3}}$$

$$\cdot \begin{cases} x = -\cosh t \\ y = \sqrt{3} \sinh t \end{cases} t \in \mathbb{R} : \text{וענף שמאלי}, \begin{cases} x = \cosh t \\ y = \sqrt{3} \sinh t \end{cases} t \in \mathbb{R} : \text{ענף ימני}$$

$$1. \tau \quad C : \begin{cases} x = -\cosh t \\ y = \sqrt{3} \sinh t \end{cases} \quad \ln(2 - \sqrt{3}) \leq t \leq 0 \quad \text{ג.}$$

8 (8)

6π√29 (9)

גופים במרחב

שאלות

1 שרטטו את התחומים הבאים במרחב ותארו במילים את הגוף שהתקבל.

א. $V = \{(x, y, z) \mid x^2 + y^2 + z^2 \leq 4\}$

ב. $V = \{(x, y, z) \mid -\sqrt{4-x^2-y^2} \leq z \leq \sqrt{4-x^2-y^2}\}$

ג. $V = \{(x, y, z) \mid x^2 + y^2 + z^2 \leq 4, z \geq 0\}$

ד. $V = \{(x, y, z) \mid 0 \leq z \leq \sqrt{4-x^2-y^2}\}$

ה. $V = \{(x, y, z) \mid x^2 + y^2 + z^2 \leq 4, z \leq 0\}$

ו. $V = \{(x, y, z) \mid -\sqrt{4-x^2-y^2} \leq z \leq 0\}$

ז. $V = \{(x, y, z) \mid 0 \leq x \leq 2, 0 \leq y \leq 4, 0 \leq z \leq 3\}$

2 שרטטו את התחומים הבאים במרחב ותארו במילים את הגוף שהתקבל.

א. $V = \{(x, y, z) \mid x^2 + y^2 + z^2 \leq 1, x \geq 0, y \geq 0, z \geq 0\}$

ב. $V = \{(x, y, z) \mid 0 \leq z \leq \sqrt{1-x^2-y^2}, x \geq 0, y \geq 0\}$

ג. $D = \{(x, y, z) \mid 1 \leq x^2 + y^2 + z^2 \leq 4, x \geq 0, y \geq 0, z \geq 0\}$

ד. $D = \{(x, y, z) \mid 1 \leq x^2 + y^2 + z^2 \leq 4, x \geq 0, z \geq 0, 0 \leq y \leq x\}$

ה. $V = \{(x, y, z) \mid 1 \leq z \leq 1 + \sqrt{1-x^2-y^2}\}$

ו. $V = \{(x, y, z) \mid \sqrt{x^2+y^2} \leq z \leq \frac{1}{2} + \sqrt{\frac{1}{4}-x^2-y^2}\}$

3 שרטטו את התחומים הבאים במרחב ותארו במילים את הגוף שהתקבל.

א. $V = \{(x, y, z) \mid x^2 + y^2 + z^2 \leq 4, z \geq \sqrt{3(x^2+y^2)}\}$

ב. $V = \{(x, y, z) \mid \sqrt{3(x^2+y^2)} \leq z \leq \sqrt{4-x^2-y^2}\}$

ג. $V = \{(x, y, z) \mid 0 \leq z \leq \sqrt{4-x^2-y^2}, x^2 + y^2 \leq 1\}$

ד. $V = \{(x, y, z) \mid 0 \leq y \leq 3, x \geq 0, z \geq 0, x^2 + z^2 \leq 4\}$

ה. $V = \{(x, y, z) \mid x \geq 0, y \geq 0, z \geq 0, x^2 + y^2 + z^2 \leq 36, \frac{x^2}{9} + \frac{y^2}{16} \leq 1\}$

4) שרטטו את התחומים הבאים במרחב ותארו במילים את הגוף שהתקבל.

א. $V = \{(x, y, z) \mid \sqrt{x^2 + y^2} \leq z \leq 2 - x^2 - y^2\}$

ב. $V = \{(x, y, z) \mid x^2 + y^2 \leq z \leq \sqrt{4 - x^2 - y^2}\}$

ג. $V = \{(x, y, z) \mid x^2 + y^2 \leq z \leq 1 - x^2 - y^2\}$

ד. $V = \{(x, y, z) \mid 0 \leq z \leq 4 - x^2 - y^2, x^2 + y^2 - 2x \leq 0\}$

5) שרטטו את התחומים הבאים במרחב ותארו במילים את הגוף שהתקבל.

א. $\{(x, y, z) \mid x^2 + y^2 + z^2 \leq 4, x^2 + y^2 \leq 1\}$

ב. $\{(x, y, z) \mid x^2 + y^2 + z \leq 4, x \geq 0, y \geq 0, z \geq 0, x^2 + y^2 \leq 1\}$

ג. $V = \{(x, y, z) \mid 0 \leq z \leq 4 - x^2 - y^2, x \geq 0, y \geq 0, x^2 + y^2 \leq 1\}$

ד. $V = \{(x, y, z) \mid \sqrt{x^2 + y^2} \leq z \leq \sqrt{4 - x^2 - y^2}, x^2 + y^2 \leq 1\}$

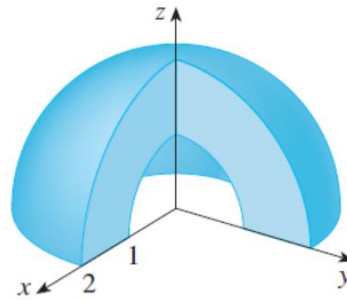
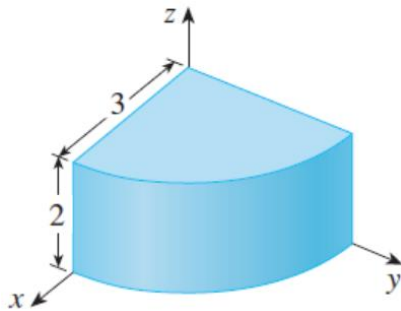
ה. $U = \{(x, y, z) \mid 0 \leq z \leq 10 - y, 1 \leq x^2 + y^2 \leq 4\}$

6) בכל אחד מהסעיפים הבאים איור של גוף V במרחב.

תארו במילים את הגוף וכתבו אותו לפי התבנית $V = \{(x, y, z) \mid \dots\}$.

א.

ב.



7) נתונים המשטחים $z = x^2 + y^2$ ו- $z = 2 - \sqrt{x^2 + y^2}$.

א. זהו כל אחד מהמשטחים בשם.

ב. שרטטו את התחום החסום בין המשטחים.

ג. מצאו את משוואת עקום החיתוך בין המשטחים.

(8) נתונים שני משטחים: $z = x^2 + y^2 + z^2$ ו- $z = \sqrt{x^2 + y^2}$.

א. זהו כל אחד מהמשטחים בשם.

ב. שרטטו את התחום החסום בין המשטחים וכתוב אותו בתבנית

$$V = \{(x, y, z) \mid ? \leq z \leq ??\}$$

ג. מצאו את משוואת עקום החיתוך בין המשטחים.

(9) תחומים תלת-ממדיים M ו- N נתונים על ידי

$$M : x^2 - y^2 + 2z^2 \leq 3$$

$$N : 2x^2 - y^2 + z^2 \leq 3$$

תחום תלת-ממדי W הוא החיתוך בין M ל- N .

שרטטו את D , החיתוך של W עם המישור $y=1$ (במערכת צירים (xz)),

וכתבו את D בהצגה פרמטרית.

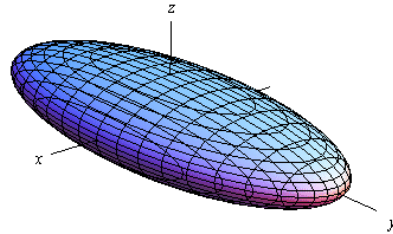
לפתרונות מלאים ראו את הסרטונים באתר GooL.co.il

נספח – משטחים ממעלה שנייה

אליפסואיד

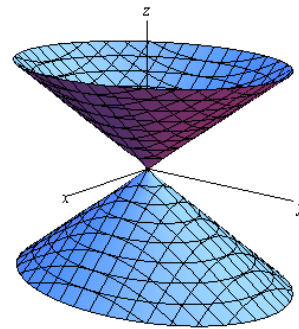
$$\frac{x^2}{a^2} + \frac{y^2}{b^2} + \frac{z^2}{c^2} = 1 : \text{משוואה}$$

תיאור: החתכים במישורי הקואורדינטות הם אליפסות; כך הם גם החתכים במישורים מקבילים. אם $a=b=c$, נקבל כדור עם רדיוס a והחתכים הנ"ל הם מעגלים.

חרוט אליפטי

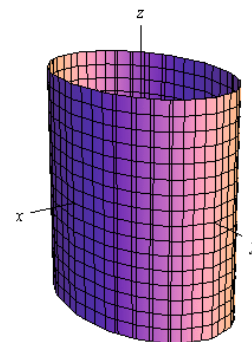
$$\frac{x^2}{a^2} + \frac{y^2}{b^2} = \frac{z^2}{c^2} : \text{משוואה}$$

תיאור: החתך במישור xy הוא נקודה (הראשית); החתכים במישורים מקבילים למישור xy הם אליפסות. החתכים במישור xz ו- yz הם זוג ישרים הנחתכים בראשית; החתכים במישורים מקבילים למישורים אלו הם היפרבולות. * מרכז החרוט הוא על הציר המתאים למשתנה המופיע לבד באחד האגפים.

גליל אליפטי

$$\frac{x^2}{a^2} + \frac{y^2}{b^2} = 1 : \text{משוואה}$$

תיאור: החתך במישור xy הוא אליפסה; כך הם החתכים במישורים מקבילים למישור xy . החתכים במישור xz ו- yz הם זוג ישרים מקבילים וכך הם החתכים במישורים מקבילים למישורים אלו. במידה ומשוואת הגליל היא $x^2 + y^2 = r^2$, החתכים הנ"ל הם מעגלים. * מרכז הגליל הוא על הציר המתאים למשתנה שאינו מופיע במשוואת הגליל.

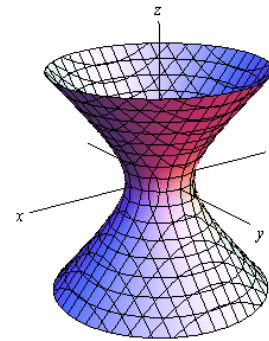


היפרבולואיד חד-יריעתי

$$\frac{x^2}{a^2} + \frac{y^2}{b^2} - \frac{z^2}{c^2} = 1 : \text{משוואה}$$

תיאור: החתך במישור xy הוא אליפסה; כך הם החתכים במישורים מקבילים למישור xy . החתכים במישור xz ו- yz הם היפרבולות; כך הם גם החתכים במישורים מקבילים למישורים אלו.

* מרכז היפרבולואיד חד-יריעתי הוא על הציר המתאים למשתנה שלפניו המינוס.

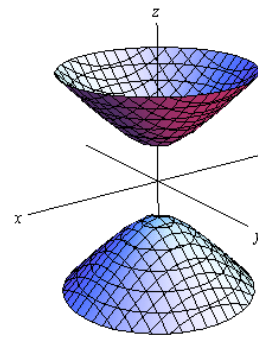


היפרבולואיד דו-יריעתי

$$\frac{x^2}{a^2} + \frac{y^2}{b^2} - \frac{z^2}{c^2} = -1 : \text{משוואה}$$

תיאור: למשטח זה אין חתך במישור xy ; החתכים במישורים מקבילים למישור xy , החותכים את המשטח, הם אליפסות. החתכים במישור xz ו- yz הם היפרבולות; כך הם גם החתכים במישורים מקבילים למישורים אלו.

* מרכז היפרבולואיד דו-יריעתי הוא על הציר המתאים למשתנה שלפניו המינוס.



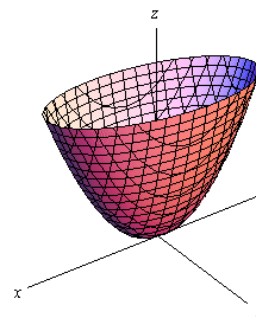
פרבולואיד אליפטי

$$\frac{x^2}{a^2} + \frac{y^2}{b^2} = \frac{z}{c} : \text{משוואה}$$

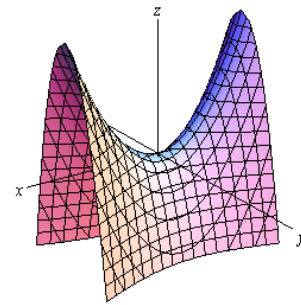
תיאור: החתך במישור xy הוא נקודה (הראשית); החתכים במישורים מקבילים למישור xy ונמצאים מעליו הם אליפסות. החתכים במישור xz ו- yz הם פרבולות; כך הם גם החתכים במישורים מקבילים למישורים אלו.

* מרכז הפרבולואיד האליפטי הוא על הציר המתאים למשתנה המופיע ללא ריבוע.

* אם $c > 0$ הפרבולואיד נפתח כלפי מעלה ואם $c < 0$ הפרבולואיד נפתח כלפי מטה.



פרבולואיד היפרבולי



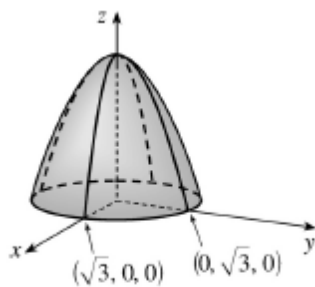
$$\text{משוואה: } \frac{x^2}{a^2} - \frac{y^2}{b^2} = \frac{z}{c}$$

תיאור: החתך במישור xy הוא זוג ישרים נחתכים בראשית; החתכים במישורים מקבילים למישור xy הם היפרבולות; אלו שמעל למישור xy נפתחות בכיוון ציר ה- x ואלו שמתחת למישור xy נפתחות בכיוון ציר ה- y . החתכים במישור xz ו- yz הם פרבולות; כך הם גם החתכים במישורים מקבילים למישורים אלו.

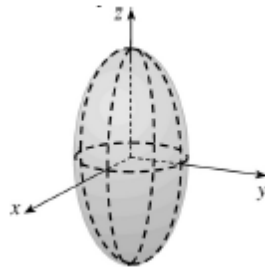
* מרכז הפרבולואיד האליפטי הוא על הציר המתאים למשתנה המופיע ללא ריבוע.

* אם $c > 0$ הפרבולואיד נפתח כלפי מעלה ואם $c < 0$ הפרבולואיד נפתח כלפי מטה.

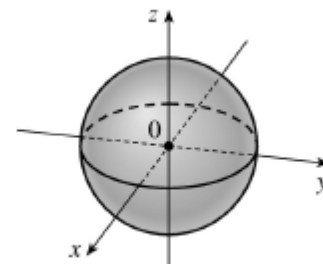
דוגמאות שונות



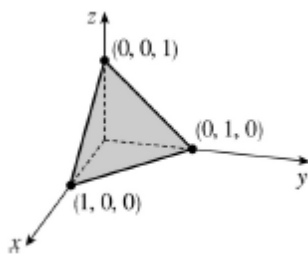
$$z = 3 - x^2 - y^2$$



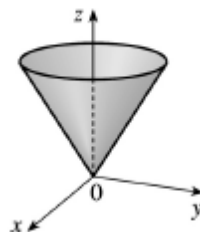
$$\frac{x^2}{4} + \frac{y^2}{4} + \frac{z^2}{16} = 1$$



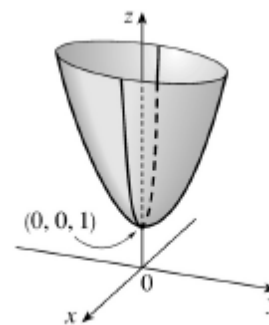
$$x^2 + y^2 + z^2 = 1$$



$$x + y + z = 1$$



$$z = \sqrt{x^2 + y^2}$$



$$z = 4x^2 + y^2 + 1$$

חשבון דיפרנציאלי ואינטגרלי ב

פרק 10 - פונקציות של מספר משתנים - מבוא, קווי גובה

תוכן העניינים

- 1. מבוא לפונקציה של שני משתנים 74
- 2. קווי גובה לפונקציה של שני משתנים 76
- 3. נספח – משטחים ממעלה שנייה 78

מבוא לפונקציה של שני משתנים

עבור כל אחת מהפונקציות הבאות:

א. מצאו את תחום ההגדרה D של הפונקציה.

ב. שרטטו סקיזה של הקבוצה D .

$$f(x, y) = \sqrt{5 - x^2 - y^2} + \ln(4y - x^2) \quad (1)$$

$$f(x, y) = \sqrt{x^2 + y^2 - 4} + \frac{1}{\sqrt{x}} \quad (2)$$

$$f(x, y) = \sqrt{-x^2 + y^2 + 1} + \frac{x+y}{x-y} \quad (3)$$

$$g(x, y) = \sqrt{x+4y} + \sqrt{x-4y} \quad (4)$$

$$f(x, y) = \frac{1}{\sqrt{x+4y}} + \frac{1}{\sqrt{x-4y}} \quad (5)$$

$$h(x, y) = \sqrt{x - \sqrt{y+4}} \quad (6)$$

$$f(x, y) = e^{xy} \sqrt{\ln \frac{4}{x^2 + y^2}} + \sqrt{x^2 + y^2 - 4} \quad (7)$$

$$z(x, y) = \frac{4}{\sqrt{1 - |x| - |y|}} \quad (8)$$

$$z(x, y) = \ln \left(\frac{x-4y}{x+4y} \right) \quad (9)$$

$$f(x, y) = \ln[x \ln(y-4x)] \quad (10)$$

$$u(x, y, z) = \frac{1}{\sqrt{x+4}} + \frac{1}{\sqrt{y-1}} + \frac{1}{\sqrt{z}} \quad (11)$$

(ענו על סעיף א בלבד)

$$f(x, y) = \tan \frac{y}{x} \quad (12)$$

(רק לתלמידי מדעים מדויקים/הנדסה)

$$f(x, y) = \frac{\arcsin\left(\frac{1}{4}x^2 + \frac{1}{4}y^2\right)}{\ln(x^2 + y^2 - 1)} \quad (13)$$

(רק לתלמידי מדעים מדויקים/הנדסה)

תשובות סופיות

$$D = \left\{ (x, y) \mid \frac{1}{4}x^2 \leq y \leq \sqrt{5-x^2} \right\} \quad (1)$$

$$D = \left\{ (x, y) \mid x^2 + y^2 \geq 4, x > 0 \right\} \quad (2)$$

$$D = \left\{ (x, y) \mid x^2 - y^2 \leq 1, y \neq x \right\} \quad (3)$$

$$D = \left\{ (x, y) \mid -\frac{1}{4}x \leq y \leq \frac{1}{4}x \right\} \quad (4)$$

$$D = \left\{ (x, y) \mid -\frac{1}{4}x < y < \frac{1}{4}x \right\} \quad (5)$$

$$D = \left\{ (x, y) \mid -4 \leq y \leq x^2 - 4, x \geq 0 \right\} \quad (6)$$

$$D = \left\{ (x, y) \mid x^2 + y^2 = 4 \right\} \quad (7)$$

$$D = \left\{ (x, y) \mid |x| + |y| < 1 \right\} \quad (8)$$

$$D = \left\{ (x, y) \mid \frac{1}{4}x < y < -\frac{1}{4}x \text{ or } -\frac{1}{4}x < y < \frac{1}{4}x \right\} \quad (9)$$

$$D = \left\{ (x, y) \mid [x < 0 \text{ and } 4x < y < 4x + 1] \text{ or } [x > 0 \text{ and } y > 4x + 1] \right\} \quad (10)$$

$$D = \left\{ (x, y, z) \mid x > -4, y > 1, z > 0 \right\} \quad (11)$$

$$D = \left\{ (x, y) \in \mathbb{R}^2 \mid x \neq 0, y \neq \left(\frac{\pi}{2} + \pi k\right)x, k \in \mathbb{Z} \right\} \quad (12)$$

$$D = \left\{ (x, y) \mid 1 < x^2 + y^2 \neq 2 < 4 \right\} \quad (13)$$

קווי גובה לפונקציה של שני משתנים

עבור כל אחת מהפונקציות בשאלות 1-6, מצאו תחום הגדרה, שרטטו אותו, ושרטטו את מפת קווי הגובה/רמה של הפונקציה:

$$f(x, y) = \frac{y}{x} \quad (1)$$

$$f(x, y) = \ln x + \ln y \quad (2)$$

$$f(x, y) = x^2 + y^2 \quad (3)$$

$$f(x, y) = \sqrt{1 - x^2 - y^2} \quad (4)$$

$$f(x, y) = \ln(x^2 - y) \quad (5)$$

$$f(x, y) = x\sqrt{y} \quad (6)$$

עבור כל אחת מהפונקציות בשאלות 7-10 שרטטו מפת קווי גובה:

$$f(x, y) = (x-1)^2 + (y+3)^2 \quad (7)$$

$$f(x, y) = e^{x-y} \quad (8)$$

$$f(x, y) = 2 \ln x + \ln y \quad (9)$$

$$f(x, y) = \min\{3x, y\} \quad (10)$$

עבור כל אחת מהפונקציות בשאלות 11-13, שרטטו את קו הגובה k :

$$(k = 0, 4) \quad f(x, y) = (x - y)^2 \quad (11)$$

$$(k = 0, 2) \quad f(x, y) = \min\{y - x^2, x + y\} \quad (12)$$

$$(k = 1) \quad f(x, y) = \begin{cases} x^2 + 3x - y - 3 & x^2 \geq y \\ -x^2 + 3x + y - 3 & x^2 < y \end{cases} \quad (13)$$

$$(14) \text{ נתונה הפונקציה } f(x, y) = \begin{cases} x^2 - y & x \leq 1 \\ 2x + y & x > 1 \end{cases}$$

- א. שרטטו את קו הגובה $f(x, y) = 0$.
- ב. לאילו ערכי C קו הגובה $f(x, y) = C$ הוא קו רציף?
ציירו את קו הגובה במקרה זה.

הערות

- * בסוף קובץ זה תמצאו סיכום של כל המשטחים הנפוצים.
- ** קווי גובה = קווי רמה = עקומות אדישות = עקומות שוות ערך.

תשובות סופיות

- (1) $x \neq 0$, המישור ללא ציר ה- y .
- (2) $x > 0, y > 0$, הרביע הראשון ללא הצירים.
- (3) כל המישור.
- (4) $x^2 + y^2 \leq 1$, עיגול היחידה.
- (5) $y < x^2$
- (6) $y \geq 0$, חצי המישור העליון.

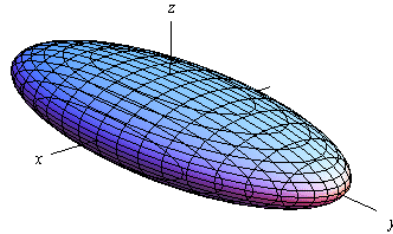
לפתרונות מלאים ושרטוטים של שאר השאלות, היכנסו לאתר: GooL.co.il

נספח – משטחים ממעלה שנייה

אליפסואיד

$$\frac{x^2}{a^2} + \frac{y^2}{b^2} + \frac{z^2}{c^2} = 1 : \text{משוואה}$$

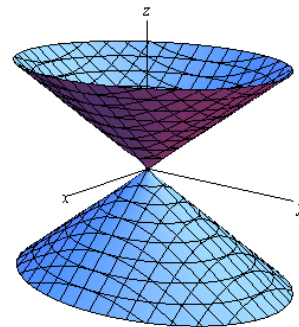
תיאור: החתכים במישורי הקואורדינטות הם אליפסות; כך הם גם החתכים במישורים מקבילים. אם $a=b=c$, נקבל כדור עם רדיוס a והחתכים הנ"ל הם מעגלים.



חרוט אליפטי

$$\frac{x^2}{a^2} + \frac{y^2}{b^2} = \frac{z^2}{c^2} : \text{משוואה}$$

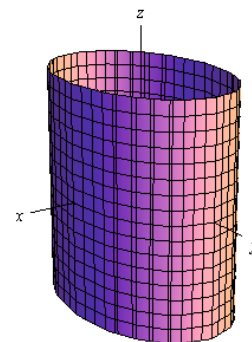
תיאור: החתך במישור xy הוא נקודה (הראשית); החתכים במישורים מקבילים למישור xy הם אליפסות. החתכים במישור xz ו- yz הם זוג ישרים הנחתכים בראשית; החתכים במישורים מקבילים למישורים אלו הם היפרבולות. * מרכז החרוט הוא על הציר המתאים למשתנה המופיע לבד באחד האגפים.



גליל אליפטי

$$\frac{x^2}{a^2} + \frac{y^2}{b^2} = 1 : \text{משוואה}$$

תיאור: החתך במישור xy הוא אליפסה; כך הם החתכים במישורים מקבילים למישור xy . החתכים במישור xz ו- yz הם זוג ישרים מקבילים וכך הם החתכים במישורים מקבילים למישורים אלו. במידה ומשוואת הגליל היא $x^2 + y^2 = r^2$, החתכים הנ"ל הם מעגלים. * מרכז הגליל הוא על הציר המתאים למשתנה שאינו מופיע במשוואת הגליל.

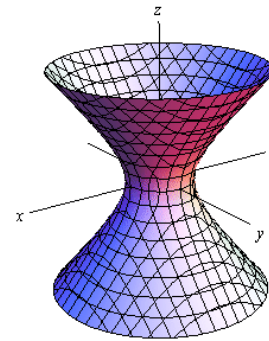


היפרבולואיד חד-יריעתי

$$\frac{x^2}{a^2} + \frac{y^2}{b^2} - \frac{z^2}{c^2} = 1 : \text{משוואה}$$

תיאור: החתך במישור xy הוא אליפסה; כך הם החתכים במישורים מקבילים למישור xy . החתכים במישור xz ו- yz הם היפרבולות; כך הם גם החתכים במישורים מקבילים למישורים אלו.

* מרכז היפרבולואיד חד-יריעתי הוא על הציר המתאים למשתנה שלפניו המינוס.

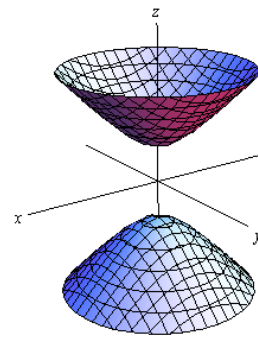


היפרבולואיד דו-יריעתי

$$\frac{x^2}{a^2} + \frac{y^2}{b^2} - \frac{z^2}{c^2} = -1 : \text{משוואה}$$

תיאור: למשטח זה אין חתך במישור xy ; החתכים במישורים מקבילים למישור xy , החותכים את המשטח, הם אליפסות. החתכים במישור xz ו- yz הם היפרבולות; כך הם גם החתכים במישורים מקבילים למישורים אלו.

* מרכז היפרבולואיד דו-יריעתי הוא על הציר המתאים למשתנה שלפניו המינוס.



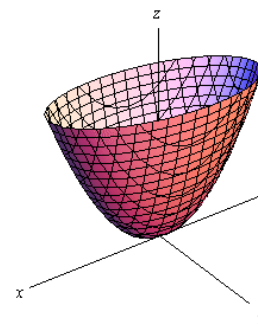
פרבולואיד אליפטי

$$\frac{x^2}{a^2} + \frac{y^2}{b^2} = \frac{z}{c} : \text{משוואה}$$

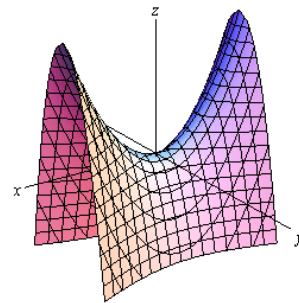
תיאור: החתך במישור xy הוא נקודה (הראשית); החתכים במישורים מקבילים למישור xy ונמצאים מעליו הם אליפסות. החתכים במישור xz ו- yz הם פרבולות; כך הם גם החתכים במישורים מקבילים למישורים אלו.

* מרכז הפרבולואיד האליפטי הוא על הציר המתאים למשתנה המופיע ללא ריבוע.

* אם $c > 0$ הפרבולואיד נפתח כלפי מעלה ואם $c < 0$ הפרבולואיד נפתח כלפי מטה.



פרבולואיד היפרבולי



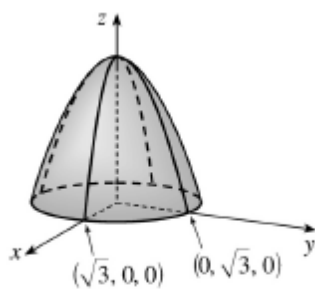
$$\text{משוואה: } \frac{x^2}{a^2} - \frac{y^2}{b^2} = \frac{z}{c}$$

תיאור: החתך במישור xy הוא זוג ישרים נחתכים בראשית; החתכים במישורים מקבילים למישור xy הם היפרבולות; אלו שמעל למישור xy נפתחות בכיוון ציר ה- x ואלו שמתחת למישור xy נפתחות בכיוון ציר ה- y . החתכים במישור xz ו- yz הם פרבולות; כך הם גם החתכים במישורים מקבילים למישורים אלו.

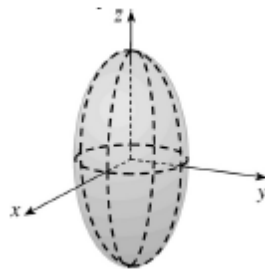
* מרכז הפרבולואיד האליפטי הוא על הציר המתאים למשתנה המופיע ללא ריבוע.

* אם $c > 0$ הפרבולואיד נפתח כלפי מעלה ואם $c < 0$ הפרבולואיד נפתח כלפי מטה.

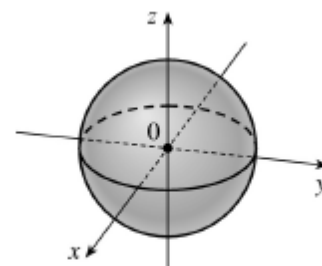
דוגמאות שונות



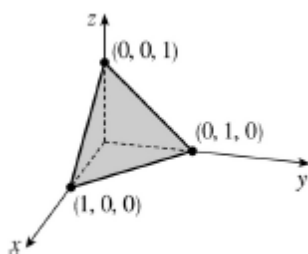
$$z = 3 - x^2 - y^2$$



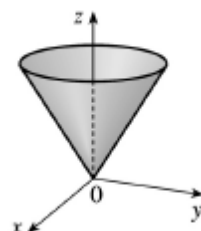
$$\frac{x^2}{4} + \frac{y^2}{4} + \frac{z^2}{16} = 1$$



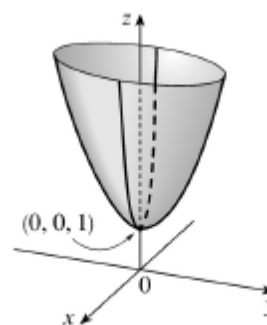
$$x^2 + y^2 + z^2 = 1$$



$$x + y + z = 1$$



$$z = \sqrt{x^2 + y^2}$$



$$z = 4x^2 + y^2 + 1$$

חשבון דיפרנציאלי ואינטגרלי ב

פרק 11 - גבולות ורציפות של פונקציות של מספר משתנים

תוכן העניינים

- 1. גבול של פונקציה של שני משתנים 81
- 2. רציפות של פונקציה של שני משתנים 84
- 3. נוסחאות – גבולות 87

גבול של פונקציה של שני משתנים

שאלות

חשבו את הגבולות בשאלות 1-9:

$$\lim_{(x,y) \rightarrow (0,0)} \frac{\sin(x^3 y)}{x^3 y} \quad (1)$$

$$\lim_{(x,y) \rightarrow (3,2)} \frac{\sin(xy - 6)}{x^2 y^2 - 36} \quad (2)$$

$$\lim_{(x,y) \rightarrow (1,2)} \frac{\arctan(x + y - 3)}{\ln(x + y - 2)} \quad (3)$$

$$\lim_{(x,y) \rightarrow (0,0^+)} (x^2 + y) \ln(x^2 + y) \quad (4)$$

$$\lim_{(x,y) \rightarrow (1^+, 1^+)} \frac{\sin(\sqrt{x + 2y - 3})}{x + 2y - 3} \quad (5)$$

$$\lim_{(x,y) \rightarrow (1,2)} \frac{\sqrt{2x + y - 3} - 1}{2x + y - 4} \quad (6)$$

$$\lim_{(x,y) \rightarrow (1,1)} \frac{xy - y^2}{\sqrt{x} - \sqrt{y}} \quad (7)$$

$$\lim_{(x,y,z) \rightarrow (0,1,2)} \frac{\sin(x(y^2 + z^2))}{xy^2} \quad (8)$$

$$\lim_{(x,y) \rightarrow (0,0)} \frac{\sin(\sqrt{x^2 + y^2})}{\sqrt[3]{x^2 + y^2}} \quad (9)$$

חשבו את הגבולות בשאלות 10-17 :

$$\lim_{\substack{x \rightarrow 0 \\ y \rightarrow 0}} |y|^x \quad (11)$$

$$\lim_{\substack{x \rightarrow 0 \\ y \rightarrow 0}} \frac{(x^2 + y^2)^2}{x^4 + y^2} \quad (10)$$

$$\lim_{\substack{x \rightarrow 0 \\ y \rightarrow 0}} \frac{x}{y} \quad (13)$$

$$\lim_{\substack{x \rightarrow 0 \\ y \rightarrow 0}} \frac{x^3 + y^2}{x^2 + y^2} \quad (12)$$

$$\lim_{\substack{x \rightarrow 0 \\ y \rightarrow 0}} \frac{x^3 y}{2x^6 + y^2} \quad (15)$$

$$\lim_{\substack{x \rightarrow 0 \\ y \rightarrow 0}} \frac{x^2 y}{x^4 + y^2} \quad (14)$$

$$\lim_{\substack{x \rightarrow 0 \\ y \rightarrow 0 \\ z \rightarrow 0}} \frac{xyz}{x^2 + y^4 + z^4} \quad (17)$$

$$\lim_{\substack{x \rightarrow 0 \\ y \rightarrow 0}} \frac{\sin(xy)}{x^2 + y^2} \quad (16)$$

חשבו את הגבולות בשאלות 18-25 :

$$\lim_{(x,y) \rightarrow (\infty, \infty)} \frac{x-y}{x^2 + yx + y^4} \quad (19)$$

$$\lim_{(x,y) \rightarrow (0,0)} \frac{x^3 y}{x^2 + y^2} \quad (18)$$

$$\lim_{(x,y) \rightarrow (0,0)} \frac{x^4 + y^4}{x^2 + y^2} \quad (21)$$

$$\lim_{(x,y) \rightarrow (0,0)} \frac{\sin(xy)}{\sqrt{x^2 + y^2}} \quad (20)$$

$$\lim_{(x,y) \rightarrow (0,0)} \frac{4x^2 y - 5y^4}{x^2 + 4y^2} \quad (23)$$

$$\lim_{(x,y) \rightarrow (0,0)} \frac{3x^2 - x^2 y^2 + 3y^2}{x^2 + y^2} \quad (22)$$

$$\lim_{(x,y,z) \rightarrow (0,0,0)} \frac{x^3 + y^3 + z^3}{x^2 + y^2 + z^2} \quad (25)$$

$$\lim_{(x,y) \rightarrow (0,0)} y \ln(x^2 + y^2) \quad (24)$$

* בשאלות 18, 20-23 ו-25 מומלץ לנסות לפתור בשתי דרכים שונות.

(26) ענו על הסעיפים הבאים :

א. חשבו את הגבול $\lim_{\substack{x \rightarrow 0 \\ y \rightarrow 0}} \frac{x^3 y}{x^3 + y^2}$.

ב. היעזרו בגבול הידוע $\lim_{t \rightarrow 0} \frac{\sin t}{t} = 1$, וחשבו את הגבול $\lim_{\substack{x \rightarrow 0 \\ y \rightarrow 0}} \frac{\sin(x^3 y)}{x^3 + y^2}$.

ג. היעזרו בגבול הידוע $\lim_{t \rightarrow 0} \frac{e^t - 1}{t} = 1$, וחשבו את הגבול $\lim_{\substack{x \rightarrow 0 \\ y \rightarrow 0}} \frac{e^{x^3 y} - 1}{x^3 + y^2}$.

ד. היעזרו בגבול הידוע $\lim_{t \rightarrow 0} \frac{\ln(t+1)}{t} = 1$, וחשבו את הגבול $\lim_{\substack{x \rightarrow 0 \\ y \rightarrow 0}} \frac{\ln(x^3 y + 1)}{x^3 + y^2}$.

* קחו בחשבון שייתכן שהגבול הידוע לא יינתן בגוף השאלה.

(27) הוכיחו לפי ההגדרה כי $\lim_{\substack{x \rightarrow 0 \\ y \rightarrow 0}} (\sin x + \cos y) = 1$.

(28) הוכיחו לפי ההגדרה כי $\lim_{\substack{x \rightarrow 2 \\ y \rightarrow 1}} x^2 y = 4$.

(29) הוכיחו לפי ההגדרה כי $\lim_{\substack{x \rightarrow 1 \\ y \rightarrow 4}} 2x^2 y = 8$.

תשובות סופיות

1 (1)

 $\frac{1}{12}$ (2)

1 (3)

0 (4)

(5) אינסוף.

 $\frac{1}{2}$ (6)

2 (7)

5 (8)

0 (9)

(10) – (17) אין לפונקציה גבול.

0 (18)

0 (19)

0 (20)

0 (21)

3 (22)

0 (23)

0 (24)

0 (25)

(26) א-ד. 0

(27) שאלת הוכחה.

(28) שאלת הוכחה.

(29) שאלת הוכחה.

רציפות של פונקציה של שני משתנים

שאלות

בשאלות 1-3 בדקו את רציפות הפונקציות בנקודה $(0,0)$.
 במידה והפונקציה אינה רציפה בנקודה,
 האם ניתן להגדיר אותה כך שתהיה רציפה בנקודה?

$$f(x, y) = \begin{cases} \frac{\sin(x^2 + y^2)}{x^2 + y^2} & (x, y) \neq (0, 0) \\ 2 & (x, y) = (0, 0) \end{cases} \quad (1)$$

$$f(x, y) = \begin{cases} \frac{x^3 + y^3}{x^2 + y^2} & (x, y) \neq (0, 0) \\ 0 & (x, y) = (0, 0) \end{cases} \quad (2)$$

$$f(x, y) = \begin{cases} \frac{x^2 y}{x^3 + y} & (x, y) \neq (0, 0) \\ 0 & (x, y) = (0, 0) \end{cases} \quad (3)$$

בשאלות 4-5 בדקו את רציפות הפונקציות בנקודה $(1,4)$.

$$f(x, y) = \begin{cases} \frac{(x-1)(y-4)^2}{(x-1)^2 + \sin^2(y-4)} & (x, y) \neq (1, 4) \\ 0 & (x, y) = (1, 4) \end{cases} \quad (4)$$

$$f(x, y) = \begin{cases} \frac{(x-1)(y-4)}{(x-1)^2 + \sin^2(y-4)} & (x, y) \neq (1, 4) \\ 0 & (x, y) = (1, 4) \end{cases} \quad (5)$$

$$f(x, y) = \begin{cases} \frac{x^m \sin y}{x^2 + 5y^2} & (x, y) \neq (0, 0) \\ 0 & (x, y) = (0, 0) \end{cases} \quad (6) \quad \text{נתון}$$

כאשר m קבוע.

עבור אילו ערכים של m הפונקציה רציפה בראשית?

7 נתונה פונקציה ממשית רציפה $f = f(x)$, שאינה פונקציה קבועה,

$$g(x, y) = \begin{cases} f\left(\frac{x^2 - 4y^2}{x^2 + 5y^2}\right) & (x, y) \neq (0, 0) \\ 0 & (x, y) = (0, 0) \end{cases}$$

האם הפונקציה g רציפה בנקודה $(0, 0)$?

8 הוכיחו או הפריכו את הטענה הבאה:

אם $\lim_{x \rightarrow 0} f(x, y) = f(0, y)$ לכל y ,

וגם $\lim_{y \rightarrow 0} f(x, y) = f(x, 0)$ לכל x ,

אז $\lim_{\substack{x \rightarrow 0 \\ y \rightarrow 0}} f(x, y) = f(0, 0)$.

9 פונקציה $f(x, y)$ מקיימת $|f(x, y)| \leq \sin^2(x^4 + y^4)$, לכל (x, y) .

הוכיחו שהפונקציה רציפה בנקודה $(0, 0)$.

10 מה צריך להיות הערך של הקבוע k (אם בכלל), על מנת שהפונקציה

$$f(x, y, z) = \begin{cases} \frac{xyz}{x^2 + y^2 + z^2} & (x, y, z) \neq (0, 0, 0) \\ k & (x, y, z) = (0, 0, 0) \end{cases}$$

תהיה רציפה בכל המרחב?

11 נתון כי:

לכל x מתקיים $|f(x, y_2) - f(x, y_1)| \leq |y_2 - y_1|$ (תנאי ליפשיץ לפי המשתנה y).

לכל y מתקיים $|f(x_2, y) - f(x_1, y)| \leq |x_2 - x_1|$ (תנאי ליפשיץ לפי המשתנה x).

הוכיחו כי $f(x, y)$ רציפה בכל המישור.

12 הוכיחו או הפריכו:

נתון כי $f(x, y)$ רציפה בכל המישור.

$$z(x, y) = \frac{f(x, y)}{\sqrt{(x-y)^2 - 100}}$$

ידוע כי $z(1, 14) < 0$, $z(14, 1) > 0$.

אז בתחום ההגדרה של z קיימת נקודה (c_1, c_2) , כך ש- $z(c_1, c_2) = 0$.

תשובות סופיות

- (1) הפונקציה לא רציפה. אם נגדיר $f(0,0) = 1$, הפונקציה תהיה רציפה.
- (2) הפונקציה רציפה.
- (3) הפונקציה אינה רציפה. אין לה בכלל גבול.
- (4) הפונקציה רציפה.
- (5) הפונקציה לא רציפה. אין לה בכלל גבול.
- (6) עבור $m > 1$ הפונקציה רציפה, ועבור $m \leq 1$ הפונקציה לא רציפה.
- (7) הפונקציה לא רציפה.
- (8) שאלת הוכחה.
- (9) שאלת הוכחה.
- (10) $k = 0$
- (11) שאלת הוכחה.
- (12) שאלת הוכחה.

נוסחאות – גבולות

| | $x \rightarrow -\infty$ | $x \rightarrow 0$ | $x \rightarrow \infty$ |
|--------------------------------------|---|---|---------------------------------------|
| $y = \frac{1}{x}$ | $\frac{1}{-\infty} = 0$ | $\frac{1}{0^+} = \infty, \frac{1}{0^-} = -\infty$ | $\frac{1}{\infty} = 0$ |
| $y = e^x$ | $e^{-\infty} = 0$ | $e^0 = 1$ | $e^\infty = \infty$ |
| $y = \ln x$ | --- | $\ln(0^+) = -\infty$ | $\ln(\infty) = \infty$ |
| $y = \arctan x$ | $\text{atan}(-\infty) = -\frac{\pi}{2}$ | $\text{atan}(0) = 0$ | $\text{atan}(\infty) = \frac{\pi}{2}$ |
| $y = a^x, a > 1$ | $a^{-\infty} = 0$ | $a^0 = 1$ | $a^\infty = \infty$ |
| $y = a^x, 0 < a < 1$ | $a^{-\infty} = \infty$ | $a^0 = 1$ | $a^\infty = 0$ |
| $y = \sin x$ | --- | $\sin 0 = 0$ | --- |
| $y = \cos x$ | --- | $\cos 0 = 1$ | --- |
| $y = \frac{\sin x}{x}$ | 0 | 1 | 0 |
| $y = \frac{\tan x}{x}$ | --- | 1 | --- |
| $y = \left(1 + \frac{1}{x}\right)^x$ | e | (from right) 1 | e |
| $y = (1+x)^{\frac{1}{x}}$ | --- | e | 1 |
| $y = \sqrt{x}$ | --- | $\sqrt{0^+} = 0$ | $\sqrt{\infty} = \infty$ |
| $y = \sqrt[3]{x}$ | $-\infty$ | $\sqrt[3]{0} = 0$ | $\sqrt[3]{\infty} = \infty$ |

Defined Limits:

$$\infty \cdot \infty = \infty, \quad \infty(-\infty) = -\infty, \quad \infty + \infty = \infty, \quad \infty \pm a = \infty, \quad \infty \cdot (\pm a) = \pm \infty, \quad \infty / (\pm a) = \pm \infty$$

Undefined Limits :

$$\frac{0}{0}, \frac{\infty}{\infty}, \infty - \infty, 0 \cdot \infty, 1^\infty, 0^0, \infty^0$$

חשבון דיפרנציאלי ואינטגרלי ב

פרק 12 - נגזרות חלקיות

תוכן העניינים

| | |
|----|----------------------------------|
| 88 | 1. נגזרות חלקיות מסדר ראשון..... |
| 90 | 2. נגזרות חלקיות מסדר שני..... |
| 94 | 3. נגזרות חלקיות לפי הגדרה..... |

נגזרות חלקיות מסדר ראשון

שאלות

בשאלות 1-10 חשבו את הנגזרות החלקיות מסדר ראשון של הפונקציה הנתונה.

$$f(x, y) = x^5 \ln y \quad (2) \qquad f(x, y) = 4x^3 - 3x^2y^2 + 2x + 3y \quad (1)$$

$$f(x, y) = (x^2 + y^3) \cdot (2x + 3y) \quad (4) \qquad f(x, y) = \frac{x^2 y^4 (\sqrt{y} + 5 \ln y)}{y^2 + 5y + y^y} \quad (3) \text{ (רק } f_x)$$

$$f(x, y) = \sin(xy) \quad (6) \qquad f(x, y) = \frac{x^2 - 3y}{x + y^2} \quad (5)$$

$$f(r, \theta) = r \cos \theta \quad (8) \qquad f(x, y) = \arctan(2x + 3y) \quad (7)$$

$$f(u, v, t) = e^{uv} \sin(ut) \quad (10) \qquad f(x, y, z) = xy^2z^3 \quad (9)$$

$$z(x, y) = \ln(\sqrt{x} + \sqrt{y}) \quad (11) \text{ נתון}$$

$$x \cdot \frac{\partial z}{\partial x} + y \cdot \frac{\partial z}{\partial y} = \frac{1}{2} \text{ הוכיחו כי}$$

$$f(x, y, z) = e^x \left(y^2 - \frac{1}{z} \right) \quad (12) \text{ נתון}$$

$$\text{חשבו } \frac{\partial f}{\partial x} \left(0, -1, \frac{1}{2} \right), \frac{\partial f}{\partial y} \left(0, -1, \frac{1}{2} \right), \frac{\partial f}{\partial z} \left(0, -1, \frac{1}{2} \right)$$

הערת סימון

$$f = f(x, y) \Rightarrow f_x = \frac{\partial f}{\partial x} = f_1 ; f_y = \frac{\partial f}{\partial y} = f_2$$

תשובות סופיות

$$f_y = -6x^2y + 3 \qquad f_x = 12x^2 - 6xy^2 + 2 \quad (1)$$

$$f_y = \frac{x^5}{y} \qquad f_x = 5x^4 \ln y \quad (2)$$

$$f_x = 2x \frac{y^4(\sqrt{y} + 5 \ln y)}{y^2 + 5y + y^y} \quad (3)$$

$$f_y = 6xy^2 + 12y^3 + 3x^2 \qquad f_x = 6x^2 + 6xy + 2y^3 \quad (4)$$

$$f_y = \frac{-3x + 3y^2 - 2x^2y}{(x + y^2)^2} \qquad f_x = \frac{x^2 + 2xy^2 + 3y}{(x + y^2)^2} \quad (5)$$

$$f_y = \cos(xy) \cdot x \qquad f_x = \cos(xy) \cdot y \quad (6)$$

$$f_y = \frac{3}{1 + (2x + 3y)^2} \qquad f_x = \frac{2}{1 + (2x + 3y)^2} \quad (7)$$

$$f_\theta = -r \sin \theta \qquad f_r = \cos \theta \quad (8)$$

$$f_z = 3xy^2z^2 \qquad f_y = 2xyz^3 \qquad f_x = y^2z^3 \quad (9)$$

$$f_t = u \cdot e^{uv} \cdot \cos ut \qquad f_v = u \cdot e^{uv} \cdot \sin ut \qquad f_u = e^{uv} [v \sin ut + t \cos ut] \quad (10)$$

שאלת הוכחה. (11)

$$\frac{\partial f}{\partial x} \left(0, -1, \frac{1}{2} \right) = -1, \quad \frac{\partial f}{\partial y} \left(0, -1, \frac{1}{2} \right) = -2, \quad \frac{\partial f}{\partial z} \left(0, -1, \frac{1}{2} \right) = 4 \quad (12)$$

הערת סימון

$$\begin{array}{l}
 f_x = \frac{\partial f}{\partial x} = f_1 \qquad f_y = \frac{\partial f}{\partial y} = f_2 \\
 f = f(x, y) \Rightarrow f_{xx} = \frac{\partial^2 f}{\partial x^2} = f_{11} \qquad f_{yy} = \frac{\partial^2 f}{\partial y^2} = f_{22} \\
 f_{xy} = \frac{\partial^2 f}{\partial y \partial x} = f_{12} \qquad f_{yx} = \frac{\partial^2 f}{\partial x \partial y} = f_{21}
 \end{array}$$

נגזרות חלקיות מסדר שני

שאלות

בשאלות 1-14 חשבו את כל הנגזרות החלקיות עד סדר שני של הפונקציה הנתונה:

$$f(x, y) = 4x^2 - x^2y^2 + 4x + 10y \quad (1)$$

$$f(x, y) = x^4 \ln y \quad (2)$$

$$f(x, y) = x^3 + y^3 - 6xy \quad (3)$$

$$f(x, y) = x^3 + y^3 + 3(1-y)(x+y) \quad (4)$$

$$f(x, y) = xy(x-y) \quad (5)$$

$$f(x, y) = (x-9)(2y-6)(4x-3y+12) \quad (6)$$

$$f(x, y) = e^{xy}(x+y) \quad (7)$$

$$f(x, y) = e^{x+y}(x^2 + y^2) \quad (8)$$

$$f(x, y) = (x^2 + 2y^2)e^{-(x^2+y^2)} \quad (9)$$

$$f(x, y) = \ln(1 + x^2 + y^2) \quad (10)$$

$$f(x, y) = \ln(x^2 + y^2) \quad (11)$$

$$f(x, y) = \ln(\sqrt[3]{x^2 + y^2}) \quad (12)$$

$$f(x, y) = \sin(10x + 4y) \quad (13)$$

$$f(x, y, z) = xyz \quad (14)$$

15) חשבו $f'_{xy}(1,1)$, עבור $f(x, y) = \ln(xy - x^2 - y^2)$.

16) חשבו $f'_{xy}(1,1)$, עבור $f(x, y) = \ln(x^2 + y^2)$.

17) חשבו $f'_{xy}(1,1)$, עבור $f(x, y) = \sqrt{x^2 + y^2}$.

18) נתון $f(x, y) = \frac{x^2}{\ln y + x}$

חשבו $\frac{\partial^2 f}{\partial x^2}(1, e)$, $\frac{\partial^2 f}{\partial y^2}(1, e)$, $\frac{\partial^2 f}{\partial x \partial y}(1, e)$.

הערת סימון

| |
|---|
| $f = f(x, y) \Rightarrow \begin{array}{ll} f_x = \frac{\partial f}{\partial x} = f_1 & f_y = \frac{\partial f}{\partial y} = f_2 \\ f_{xx} = \frac{\partial^2 f}{\partial x^2} = f_{11} & f_{yy} = \frac{\partial^2 f}{\partial y^2} = f_{22} \\ f_{xy} = \frac{\partial^2 f}{\partial y \partial x} = f_{12} & f_{yx} = \frac{\partial^2 f}{\partial x \partial y} = f_{21} \end{array}$ |
|---|

תשובות סופיות

$$\begin{array}{lll}
 f_y = -2x^2y + 10 & f_{xx} = 8 - 2y^2 & f_x = 8x - 2xy^2 + 4 \quad (1) \\
 f_{yx} = -4xy & f_{xy} = -4xy & f_{yy} = -2x^2 \\
 f_y = \frac{x^4}{y} & f_{xx} = 12x^2 \ln y & f_x = 4x^3 \ln y \quad (2) \\
 f_{yx} = \frac{4x^3}{y} & f_{xy} = \frac{4x^3}{y} & f_{yy} = -\frac{x^4}{y^2} \\
 f_y = 3y^2 - 6x & f_{xx} = 6x & f_x = 3x^2 - 6y \quad (3) \\
 f_{yx} = -6 & f_{xy} = 6 & f_{yy} = 6y \\
 f_y = 3y^2 + 3 - 3x - 6y & f_{xx} = 6x & f_x = 3x^2 + 3 - 3y \quad (4) \\
 & f_{xy} = -3 & f_{yy} = 6y - 6 \\
 f_y = x^2 - 2xy & f_{xx} = 2y & f_x = 2xy - y^2 \quad (5) \\
 & f_{xy} = f_{yx} = 2x - 2y & f_{yy} = -2x \\
 & f_x = 2[8xy - 3y^2 \cdot 1 - 24x - 0 + 57y \cdot 1 + 72 + 0 + 0] & (6) \\
 & f_y = 2[4x^2 \cdot 1 - 3x \cdot 2y - 0 - 54y + 57x \cdot 1 + 0 + 27 + 0] \\
 & f_{yy} = 2[0 - 6x \cdot 1 - 54 + 0 + 0] \quad f_{xx} = 2[8y - 0 - 24] \\
 & f_{xy} = 2[8x \cdot 1 - 6y - 0 + 57 + 0] \\
 & f_y = e^{xy}(x^2 + xy + 1) & f_x = e^{xy}(xy + y^2 + 1) \quad (7) \\
 f_{yy} = e^{xy} \cdot x(x^2 + xy + 1) + (0 + x) \cdot e^{xy} & f_{xx} = e^{xy} \cdot y(xy + y^2 + 1) + (y + 0 + 0) \cdot e^{xy} \\
 & f_{xy} = e^{xy} \cdot x(xy + y^2 + 1) + (x + 2y) \cdot e^{xy} \\
 f_y = e^{x+y}(x^2 + y^2 + 2y) & f_x = e^{x+y}(x^2 + y^2 + 2x) & (8) \\
 & , f_{xx} = e^{x+y}(x^2 + y^2 + 2x) + (2x + 2)e^{x+y} \\
 & f_{yy} = e^{x+y}(x^2 + y^2 + 2y) + (2y + 2)e^{x+y} \\
 & f_{xy} = e^{x+y}(x^2 + y^2 + 2x) + 2y \cdot e^{x+y} \\
 f_y = e^{-x^2-y^2}(4y - 2x^2y - 4y^3) & f_x = e^{-x^2-y^2}(2x - 2x^3 - 4xy^2) & (9) \\
 & f_{xx} = e^{-x^2-y^2}(-2x)(2x - 2x^3 - 4xy^2) + (2 - 6x^2 - 4y^2)e^{-x^2-y^2} \\
 & f_{yy} = e^{-x^2-y^2}(-2y)(4y - 2x^2y - 4y^3) + (4 - 2x^2 - 12y^2)e^{-x^2-y^2} \\
 & f_{xy} = e^{-x^2-y^2}(-2y)(2x - 2x^3 - 4xy^2) + (-4x \cdot 2y)e^{-x^2-y^2}
 \end{array}$$

$$f_y = \frac{2y}{1+x^2+y^2} \qquad f_x = \frac{2x}{1+x^2+y^2} \quad (10)$$

$$f_{yy} = \frac{2 \cdot (1+x^2+y^2) - 2y \cdot 2y}{(1+x^2+y^2)^2} \qquad f_{xy} = \frac{2y \cdot 2x}{(1+x^2+y^2)^2}$$

$$f_{xx} = \frac{2(x^2+y^2) - 2x \cdot 2x}{(x^2+y^2)^2} \qquad f_y = \frac{2y}{x^2+y^2} \qquad f_x = \frac{2x}{x^2+y^2} \quad (11)$$

$$f_{xy} = \frac{0(x^2+y^2) - 2y \cdot 2x}{(x^2+y^2)^2} \qquad f_{yy} = \frac{2(x^2+y^2) - 2y \cdot 2y}{(x^2+y^2)^2}$$

$$f_{xx} = \frac{2(x^2+y^2) - 2x \cdot 2x}{(x^2+y^2)^2} \cdot \frac{1}{3} \qquad f_y = \frac{2y}{x^2+y^2} \cdot \frac{1}{3} \qquad f_x = \frac{2x}{x^2+y^2} \cdot \frac{1}{3} \quad (12)$$

$$f_{xy} = \frac{0(x^2+y^2) - 2y \cdot 2x}{(x^2+y^2)^2} \cdot \frac{1}{3} \qquad f_{yy} = \frac{2(x^2+y^2) - 2y \cdot 2y}{(x^2+y^2)^2} \cdot \frac{1}{3}$$

$$f_{xx} = -100 \sin(10x+4y) \qquad f_x = 10 \cos(10x+4y) \quad (13)$$

$$f_{yy} = -16 \sin(10x+4y) \qquad f_y = 4 \cos(10x+4y)$$

$$f_{xy} = -40 \sin(10x+4y) \qquad f_{xy} = -40 \sin(10x+4y)$$

$$f_{xz} = y \qquad f_{xy} = z \qquad f_{xx} = 0 \qquad f_x = yz \quad (14)$$

$$f_{yz} = x \qquad f_{yy} = 0 \qquad f_{yx} = z \qquad f_y = xz$$

$$f_{zz} = 0 \qquad f_{zy} = x \qquad f_{zx} = y \qquad f_z = xy$$

$$-2 \quad (15)$$

$$-1 \quad (16)$$

$$-\frac{1}{2\sqrt{2}} \quad (17)$$

$$\frac{4}{e^2} \left(1 + \frac{1}{e}\right) \quad (18)$$

16

נגזרות חלקיות לפי ההגדרה

שאלות

$$(1) \quad \text{נתונה הפונקציה} \quad f(x, y) = \begin{cases} \frac{xy}{x^2 + y^2} & (x, y) \neq (0, 0) \\ 0 & (x, y) = (0, 0) \end{cases}$$

- א. חשבו את הנגזרות החלקיות של הפונקציה הבאה בנקודה $(0, 0)$.
 ב. האם הפונקציה רציפה בנקודה $(0, 0)$?
 ג. האם פונקציה גזירה חלקית היא בהכרח רציפה?

$$(2) \quad \text{מצאו את הנגזרות החלקיות של} \quad f(x, y) = \begin{cases} \frac{x^3}{x^2 + y^2} & (x, y) \neq (0, 0) \\ 0 & (x, y) = (0, 0) \end{cases}$$

בנקודה $(0, 0)$.

$$(3) \quad \text{מצאו את הנגזרות החלקיות של} \quad f(x, y) = \begin{cases} \frac{(y + x^2)^2}{y^2 + x^4} & (x, y) \neq (0, 0) \\ 1 & (x, y) = (0, 0) \end{cases}$$

בנקודה $(0, 0)$.

$$(4) \quad \text{נתונה הפונקציה} \quad f(x, y) = \begin{cases} \frac{y \sin x}{x^2 + y^2} & (x, y) \neq (0, 0) \\ 0 & (x, y) = (0, 0) \end{cases}$$

- א. הוכיחו שהפונקציה לא רציפה בנקודה $(0, 0)$.
 ב. הוכיחו שלפונקציה קיימות נגזרות חלקיות בנקודה $(0, 0)$ וחשבו אותן.

$$(5) \quad \text{נתונה הפונקציה} \quad f(x, y) = \begin{cases} \frac{x^3 + y^4}{x^2 + y^2} & (x, y) \neq (0, 0) \\ 0 & (x, y) = (0, 0) \end{cases}$$

- א. חשבו את הנגזרות החלקיות של הפונקציה.
 ב. האם הנגזרות החלקיות של הפונקציה רציפות בנקודה $(0, 0)$?

$$6 \quad \text{נתונה הפונקציה} \quad f(x, y) = \begin{cases} xy \frac{x^2 - y^2}{x^2 + y^2} & (x, y) \neq (0, 0) \\ 0 & (x, y) = (0, 0) \end{cases}$$

א. בדקו האם $f_{xy}(0, 0) = f_{yx}(0, 0)$, על ידי חישוב ישיר.

ב. האם הנגזרות המעורבות רציפות בנקודה $(0, 0)$?

ג. האם $f_{xyxy}(1, 4) = f_{yxxy}(1, 4)$.

הערה

תרגילים נוספים בהמשך הפרק, תחת הכותרת דיפרנציאביליות – שאלות 6 ו-7 סעיף ב'.

תשובות סופיות

1 (א. $f_x(0, 0) = 0$, $f_y(0, 0) = 0$. ב. לא רציפה בנקודה $(0, 0)$.)

ג. פונקציה גזירה חלקית אינה בהכרח רציפה.

2 $f_x(0, 0) = 1$, $f_y(0, 0) = 0$

3 $f_x(0, 0) = 0$, $f_y(0, 0) = 0$

4 א. שאלת הוכחה. ב. $f_x(0, 0) = 0$, $f_y(0, 0) = 0$.

$$5 \quad \text{א.} \quad f_x(x, y) = \begin{cases} \frac{x^4 + 3x^2y^2 - 2xy^4}{(x^2 + y^2)^2} & (x, y) \neq (0, 0) \\ 1 & (x, y) = (0, 0) \end{cases}$$

ב. לא רציפות.

$$f_y(x, y) = \begin{cases} \frac{2y^5 + 4x^2y^3 - 2x^3y}{(x^2 + y^2)^2} & (x, y) \neq (0, 0) \\ 0 & (x, y) = (0, 0) \end{cases}$$

6 א. $f_{xy}(0, 0) = -1 \neq f_{yx}(0, 0) = 1$

ב. הנגזרות המעורבות לא רציפות בנקודה $(0, 0)$. ג. כן.

חשבון דיפרנציאלי ואינטגרלי ב

פרק 13 - כלל השרשרת בפונקציות של מספר משתנים

תוכן העניינים

1. כלל השרשרת בפונקציות של מספר משתנים..... 96

כלל השרשרת בפונקציות של מספר משתנים

בתרגילים בפרק זה, הניחו שכל הנגזרות הרשומות קיימות.

שאלות

(1) נתון: $x = 2u - v$, $y = u^2 + v^2$, $z = \ln(x^2 - y^2)$
 חשבו: z_u , z_v .

(2) נתון: $v = 4t + k$, $u = t^2 + 4m$, $z = e^{u-v}$
 חשבו: z_t , z_m , z_k .

(3) נתון: $z = f(x^2 - y^2)$
 הוכיחו: $y \cdot z_x + x \cdot z_y = 0$

(4) נתון: $z = f(xy)$
 הוכיחו: $x \cdot z_x - y \cdot z_y = 0$

(5) נתון: $z = f\left(\frac{x}{y}\right)$
 הוכיחו: $x \cdot z_x + y \cdot z_y = 0$

(6) נתון: $z = f(x - y, y - x)$
 הוכיחו: $z_x + z_y = 0$

(7) נתון: $w = f(x - y, y - z, z - x)$
 הוכיחו: $w_x + w_y + w_z = 0$

(8) נתון: $u = \sin x + f(\sin y - \sin x)$
 הוכיחו: $u_x \cos y + u_y \cos x = \cos x \cos y$

(9) נתון: $z = y \cdot f(x^2 - y^2)$

הוכיחו: $\frac{1}{x} z_x + \frac{1}{y} z_y = \frac{z}{y^2}$

(10) נתון: $z = xy + xf\left(\frac{y}{x}\right)$

הוכיחו: $x \cdot z_x + y \cdot z_y = xy + z$

(11) נתון: $u(x, y, z) = x^2 \cdot f\left(\frac{y}{x}, \frac{z}{x}\right)$

הוכיחו: $xu_x + yu_y + zu_z = 2u$

(12) נתון: $h(x, y) = f(y + ax) + g(y - ax)$

הוכיחו: $h_{xx} = a^2 \cdot h_{yy}$

(13) נתון: $u(x, y) = f(e^x \sin y) - g(e^x \sin y)$

הוכיחו:

א. $u_{xx} + u_{yy} = \frac{u_{xx} - u_x}{\sin^2 y}$

ב. $u_{xy} = u_{yx}$

ג. חשבו את $u_{xy}(1, \pi)$, אם ידוע ש- $g'(0) = 1$, $f'(0) = 2$.

(14) נתון: $y = r \sin \theta$, $x = r \cos \theta$, $u = f(x, y)$

א. הוכיחו: $(u_x)^2 + (u_y)^2 = (u_r)^2 + \frac{1}{r^2} (u_\theta)^2$

ב. הוכיחו: $u_{rr} = f_{xx} \cos^2 \theta + 2f_{xy} \cos \theta \sin \theta + f_{yy} \sin^2 \theta$

ג. הוכיחו: $f_{xx} + f_{yy} = u_{rr} + \frac{1}{r^2} u_{\theta\theta} + \frac{1}{r} u_r$

15 נתון $z = h(u, v)$, ונתון כי $u = f(x, y)$, $v = g(x, y)$ מקיימות את משוואת קושי-רימן, כלומר מקיימות $u_x = v_y$, $u_y = -v_x$. הוכיחו כי:

א. u, v מקיימות את משוואת לפלס.

כלומר, $u_{xx} + u_{yy} = 0$ וכן $v_{xx} + v_{yy} = 0$.

ב. $h_{xx} + h_{yy} = \left((u_x)^2 + (v_x)^2 \right) (h_{uu} + h_{vv})$.

16 נתון: $y = r \sinh s$, $x = r \cosh s$, $u = f(x, y)$.

הוכיחו כי: $(u_x)^2 - (u_y)^2 = (u_r)^2 - \frac{1}{r^2} (u_s)^2$.

17 פונקציה $f(x, y)$ תיקרא הומוגנית מסדר n , אם $f(tx, ty) = t^n \cdot f(x, y)$. הוכיחו כי אם f הומוגנית, אז:

א. $x \cdot f_x + y \cdot f_y = n \cdot f(x, y)$.

ב. $x^2 f_{xx} + y^2 f_{yy} + 2xy f_{xy} = n(n-1) \cdot f(x, y)$.

18 נתונה הפונקציה $z = f(x, y) = \begin{cases} \frac{x^2 y}{x^2 + y^2} & (x, y) \neq (0, 0) \\ 0 & (x, y) = (0, 0) \end{cases}$

א. חשבו את הנגזרות החלקיות של הפונקציה בנקודה $(0, 0)$.

ב. נתון $x = 2t, y = t$.

חשבו את $z'(0)$ באופן ישיר.

ג. נתון $x = 2t, y = t$.

חשבו את $z'(0)$ לפי כלל השרשרת.

ד. בעזרת תוצאת סעיף ג' בלבד, קבעו האם הפונקציה דיפרנציאבילית.

תשובות סופיות

$$z_u = \frac{1}{x^2 - y^2} \cdot 2x \cdot 2 + \frac{1}{x^2 - y^2} (-2y) \cdot 2u \quad (1)$$

$$z_t = e^{u-v} (1) \cdot 2t + e^{u-v} (-1) \cdot 4, \quad z_m = e^{u-1} (1) \cdot 4, \quad z_k = e^{u-v} (-1) \cdot 1 \quad (2)$$

$$-e \quad \text{ג.} \quad (13)$$

$$f_x(0,0) = f_y(0,0) = 0 \quad \text{א.} \quad (18) \quad \text{ב.} \quad \frac{4}{5} \quad \text{ג.} \quad 0 \quad \text{ד.} \quad \text{לא דיפרנציאבילית.}$$

שאר השאלות הן שאלות הוכחה, לפתרונות מלאים היכנסו לאתר GooL.co.il

חשבון דיפרנציאלי ואינטגרלי ב

פרק 14 - נגזרת מכוונת וגרדיאנט

תוכן העניינים

100 1. נגזרת מכוונת וגרדיאנט

נגזרת מכוונת וגרדיאנט

שאלות

(1) תהי $f(x, y) = x^2 + y^2$.

א. חשבו את הגרדיאנט של f ואת אורכו בנקודה $(3, 4)$.
מהי משמעות התוצאה?

ב. הראו שהגרדיאנט הוא נורמל לקו הגובה של f , העובר דרך $(3, 4)$.

(2) תהי $f(x, y) = 3x^2y$.

חשבו את הנגזרת המכוונת של f בנקודה $(1, 2)$, בכיוון הווקטור $\vec{u} = 3\mathbf{i} + 4\mathbf{j}$.

(3) תהי $f(x, y) = x - \sin(xy)$.

חשבו את הנגזרת המכוונת של f בנקודה $\left(1, \frac{\pi}{2}\right)$,

בכיוון הווקטור $\vec{u} = \frac{1}{2}\mathbf{i} + \frac{\sqrt{3}}{2}\mathbf{j}$.

(4) תהי $f(x, y) = 2x^2 - 3xy + 5y^2$.

חשבו את הנגזרת המכוונת של f בנקודה $(1, 2)$, בכיוון וקטור היחידה, היוצר זווית של 45° עם החלק החיובי של ציר ה- x .

(5) תהי $f(x, y) = xy^2$.

חשבו את הנגזרת המכוונת של f בנקודה $(1, 3)$ בכיוון לנקודה $(4, 5)$.

(6) תהי $f(x, y, z) = x^2y^2z$.

חשבו את הנגזרת המכוונת של f בנקודה $(2, 1, 4)$,

בכיוון הווקטור $\vec{u} = 1\cdot\mathbf{i} + 2\cdot\mathbf{j} + 2\cdot\mathbf{k}$.

(7) אם הפוטנציאל החשמלי V בנקודה (x, y) , נתון על ידי $V = \ln\sqrt{x^2 + y^2}$, מצאו את קצב השינוי של הפוטנציאל בנקודה $(3, 4)$ בכיוון לנקודה $(2, 6)$.

(8) מצאו את הכיוון בו הנגזרת המכוונת של $f(x, y) = e^x(\cos y + \sin y)$

בנקודה $(0, 0)$ היא מקסימלית, וחשבו את ערכה.

9 מצאו את הכיוון בו הנגזרת המכוונת של הפונקציה $f(x, y, z) = 2x^3y - 3y^2z$, בנקודה $(1, 2, -1)$ היא מקסימלית, וחשבו את ערכה.

10 אם הטמפרטורה נתונה על ידי $f(x, y, z) = 3x^2 - 5y^2 + 2z^2$, ואני נמצא בנקודה $\left(\frac{1}{3}, \frac{1}{5}, \frac{1}{2}\right)$ ורוצה להתקרר כמה שיותר מהר, באיזה כיוון עליי ללכת?

11 נתונה הפונקציה $f(x, y) = 4x^2y$.

- א. מצאו את הנגזרת המכוונת של הפונקציה בנקודה $(1, 2)$, בכיוון וקטור היוצר זווית של 30° עם הכיוון החיובי של ציר ה- x .
- ב. מצאו את הנגזרת המכוונת של הפונקציה בנקודה $(1, 2)$, בכיוון וקטור היוצר זווית של 30° עם הכיוון החיובי של ציר ה- y .
- ג. מצאו הצגה פרמטרית של הישר המשיק לגרף הפונקציה בנקודה $(1, 2)$, בכיוון הווקטור הנתון בסעיף ב'.

12 נתונה הפונקציה $f(x, y, z) = x^2yz^4$.

- מצאו את הנגזרת המכוונת של הפונקציה בנקודה $(1, 2, -1)$, בכיוון וקטור היוצר זווית של 60° עם הכיוון החיובי של ציר ה- x , ו- 60° עם הכיוון החיובי של ציר ה- z . הניחו שהזווית עם ציר ה- y חדה.

13 נתונה הפונקציה $f(x, y) = xy^2 - x^2y^{-3}$ ונתונה הנקודה $Q(1, 1)$.

- א. חשבו את הנגזרת הכיוונית של הפונקציה בנקודה Q , בכיוון וקטור שיוצר זווית של 60° עם הכיוון החיובי של ציר ה- x .

ב. מצאו וקטור \vec{u} , כך ש- $\frac{\partial f}{\partial \vec{u}}(Q) = 0$.

ג. האם קיים וקטור \vec{u} , כך ש- $\frac{\partial f}{\partial \vec{u}}(Q) = 6$?

$$(14) \text{ נתונה הפונקציה } f(x, y) = \begin{cases} \frac{x^3 - xy^2}{x^2 + 4y^2} & (x, y) \neq (0, 0) \\ 0 & (x, y) = (0, 0) \end{cases}$$

- א. הוכיחו כי הפונקציה רציפה בנקודה $(0, 0)$.
- ב. חשבו את הנגזרות החלקיות של הפונקציה בנקודה $(0, 0)$.
- ג. חשבו את $\nabla f(0, 0)$.
- ד. בדקו דיפרנציאביליות הפונקציה בנקודה $(0, 0)$.
- ה. מצאו את הנגזרת המכוונת של הפונקציה f בנקודה $(0, 0)$, בכיוון הווקטור $\vec{u} = (1, -1)$.
- ו. הסבירו מדוע הפונקציה אינה דיפרנציאבילית, בדרך שונה מהדרך בסעיף ד'.

$$(15) \text{ הפונקציה } f(x, y, z) = 2x^2 + 4y^2 + z^2, \text{ מתארת טמפרטורה בנקודה } (x, y, z)$$

- א. מהי הטמפרטורה בנקודה $(2, 4, 1)$?
- ב. אוסף הנקודות (x, y, z) , בהן הטמפרטורה שווה 20° , מהווה משטח מפורסם. מהו?
- ג. נמלה שנמצאת בנקודה $(2, 4, 1)$ רוצה להגיע לטמפרטורה גבוהה יותר. באיזה כיוון עליה לנוע, על מנת שקצב שינוי הטמפרטורה יהיה מקסימלי?
- ד. הנמלה שלנו נמצאת כעת על שולחן בגובה 1 (מישור $z=1$), בנקודה $(2, 4, 1)$. כמו בסעיף ג, היא רוצה להגיע לטמפרטורה גבוהה יותר, אך הפעם אסור לה לעזוב את השולחן. באיזה כיוון עליה לנוע על מנת שקצב השינוי שלה יהיה מקסימלי?

$$(16) \text{ גֵּלָה מוחזקת בנקודה } (2, 1, 14), \text{ שעל המשטח } z = 20 - x^2 - 2y^2$$

- שחררו את הגֵּלָה והיא התחילה לנוע על המשטח כלפי מטה.
- א. מהו המשטח הנתון?
- ב. מצאו את הווקטור $\vec{u} = (a, b, c)$, המתאר את כיוון הנפילה של הגֵּלָה.

$$(17) \text{ תהי } f = f(x, y) \text{ פונקציה דיפרנציאבילית בכל המישור, המקיימת:}$$

$$1. \text{ לכל } x, f(x, x^2) = \frac{x^2}{2} + x^4$$

$$2. \text{ הנגזרת המכוונת של } f(x, y), \text{ בנקודה } (1, 1), \text{ בכיוון הווקטור } \left(\frac{4}{5}, \frac{3}{5}\right)$$

שווה 1.

חשבו את הגרדיאנט של f בנקודה $(1, 1)$.

(18) נתונה $f = f(x, y, z)$ דיפרנציאבילית, המקיימת $f(x, y, x^2 + y^2) = 2x + y$.

נתון כי $\frac{\partial f}{\partial \vec{u}}(0, 2, 4) = -\frac{5}{3}$, כאשר $\vec{u} = (-2, 1, 2)$.
חשבו את $\nabla f(0, 2, 4)$.

(19) נתונה הפונקציה $f(x, y) = 12x^{\frac{1}{3}}y^{\frac{2}{3}}$.

א. חשבו את $\frac{\partial f}{\partial \vec{u}}(8, 1)$, בכיוון הווקטור $\vec{u} = (3, 4)$.

ב. בדקו האם הפונקציה דיפרנציאבילית בנקודה $(0, 0)$.

ג. חשבו $\frac{\partial f}{\partial \vec{v}}(0, 0)$, בכיוון וקטור \vec{v} , היוצר זווית α

עם הכיוון החיובי של ציר ה- x .

ד. באיזה כיוון α , הנגזרת המכוונת $\frac{\partial f}{\partial \vec{v}}(0, 0)$ תהיה מקסימלית?

מהו הערך המקסימלי של הנגזרת?

(20) נתונה הפונקציה $f(x, y) = \begin{cases} x^2 \sin \frac{1}{x^2} + 20x + 21y & x \neq 0 \\ 21y & x = 0 \end{cases}$

א. עבור אלו ערכים של m מתקיים $\frac{\partial f}{\partial \hat{u}}(0, 0) < m$, לכל וקטור יחידה \hat{u} ?

ב. מצאו וקטור יחידה \hat{u} , המקיים $\frac{\partial f}{\partial \hat{u}}(0, 0) = 0$.

הערות סימון

(1) במישור \mathbb{R}^2 : $\mathbf{i} = (1, 0)$, $\mathbf{j} = (0, 1)$, ולכן ניתן לסמן וקטור במישור בשתי דרכים:

$$\vec{u} = x\mathbf{i} + y\mathbf{j} \quad \text{או} \quad \vec{u} = (x, y)$$

$$\vec{u} = (3, 4) \Leftrightarrow \vec{u} = 3\mathbf{i} + 4\mathbf{j}$$

במרחב \mathbb{R}^3 : $\mathbf{i} = (1, 0, 0)$, $\mathbf{j} = (0, 1, 0)$, $\mathbf{k} = (0, 0, 1)$,

ולכן ניתן לסמן וקטור במרחב בשתי דרכים: $\vec{v} = (x, y, z)$, או $\vec{v} = x\mathbf{i} + y\mathbf{j} + z\mathbf{k}$.

$$\vec{u} = (3, 4, 5) \Leftrightarrow \vec{u} = 3 \cdot \mathbf{i} + 4 \cdot \mathbf{j} + 5 \cdot \mathbf{k}$$

(2) יש המסמנים וקטור \vec{u} גם \underline{u} או \mathbf{u} .

(3) וקטור יחידה יסומן \hat{u} .

תשובות סופיות

- (1) א. הגרדיאנט $(6, 8)$. ב. אורך הגרדיאנט 10.
- (2) $\frac{48}{5}$ (3) $\frac{1}{2}$ (4) $7.5\sqrt{2}$
- (5) $3\sqrt{13}$ (6) $\frac{88}{3}$ (7) $\frac{1}{5}\sqrt{5}$
- (8) הנגזרת המכוונת מקסימלית בכיוון הווקטור $(1, 1)$ ושווה ל- $\sqrt{2}$.
- (9) הנגזרת המכוונת מקסימלית בכיוון הווקטור $(12, 14, -12)$ ושווה ל-22.
- (10) בכיוון הווקטור $(-2, 2, -2)$.
- (11) א. $8\sqrt{3} + 2$. ב. $8 + 2\sqrt{3}$. ג. $\ell: (1, 2, 4) + t\left(\frac{1}{2}, \frac{\sqrt{3}}{2}, 8 + 2\sqrt{3}\right)$
- (12) $\frac{1}{\sqrt{2}} - 2$
- (13) א. $-\frac{1}{2} + \frac{5}{2}\sqrt{3}$. ב. $\vec{u} = (5, 1)$ (יש עוד). ג. לא.
- (14) א. הוכחה. ב. $f_x = 1, f_y = 0$. ג. $\nabla f(0, 0) = (1, 0)$
- (15) א. 73 מעלות. ב. אליפסואיד. ג. בכיוון הווקטור $(8, 32, 2)$.
- ד. בכיוון הווקטור $(8, 32)$.
- (16) א. פרבולואיד. ב. $\vec{u} = (4, 4, -32)$
- (17) $\nabla f(1, 1) = \begin{pmatrix} -1 \\ 3 \end{pmatrix}$
- (18) $\nabla f(0, 2, 4) = (2, -3, 1)$
- (19) א. $\frac{67}{5}$. ב. לא דיפרנציאבילית. ג. $12(\cos \alpha - \cos^3 \alpha)^{\frac{1}{3}}$
- ד. $\text{Max} \frac{\partial f}{\partial \vec{v}}(0, 0) = 12\left(2/\sqrt{27}\right)^{\frac{1}{3}}, \alpha = 54.73^\circ$
- (20) א. $m > 29$. ב. $\hat{u} = (21/29, -20, 29)$ (יש אחרים).

חשבון דיפרנציאלי ואינטגרלי ב

פרק 15 - פונקציות סתומות - שימושים גיאומטריים

תוכן העניינים

1. פונקציות סתומות - הפן הטכני 105
2. שימושים גאומטריים (ללא ספר)

פונקציות סתומות – הפן הטכני

שאלות

- (1) מצאו את y' , כאשר $x^2 + y^5 = xy + 1$,
 וחשבו את $y'(0)$.
- (2) מצאו את $y'(1)$, כאשר $e^{xy} + x^2y^2 = 5x - 4$.
- (3) מצאו את $y'(e)$, $y''(e)$, כאשר $2\ln x + \ln y = 1$.
- (4) נתון $(z = z(x, y) \geq 0)$ $z^2 - e^{x^2+y^2} + (x+y)\sin z = 0$
 חשבו את $\frac{\partial z}{\partial x}(0,0)$, $\frac{\partial z}{\partial y}(0,0)$.
- (5) נתון $(y = y(x, z) \geq 0)$ $z^2 - e^{x^2+y^2} + (x+y)\sin z = -e^4$
 חשבו את $y_x(0,0)$, $y_z(0,0)$.
- (6) נתונה המשוואה $x - y = x \cdot y \cdot f\left(\frac{1}{x} - \frac{1}{z}\right)$
 הוכיחו כי $x^2 \cdot z_x + y^2 \cdot z_y = z^2$.
- (7) נתון $(z = z(x, y) \geq 0)$ $z^3 - 2xz + y = 0$
 מצאו $z_{xx}(1,1)$.
- (8) נתונה משוואה $z^3 - 3xyz = 4$ ונקודה $(2,1,-2)$. מצאו את:
 א. $z_{xx}(2,1)$
 ב. $z_{xy}(2,1)$
 ג. $z_{yy}(2,1)$

$$(9) \quad \begin{cases} u^2 - v = 3x + y \\ u - 2v^2 = x - 2y \end{cases} \quad \text{נתונה מערכת משוואות:}$$

א. חשבו את u_x, v_x, u_y, v_y .

ב. הראו כי $u_{xy} = u_{yx}$.

*הערה: בסעיף ב' אין להסתמך על משפט הנגזרות המעורבות.

$$(10) \quad \begin{cases} x = u + v \\ y = u^2 + v^2 \\ w = u^3 + v^3 \end{cases} \quad \text{נתונה מערכת משוואות:}$$

א. חשבו את w_x, w_y .

ב. חשבו y_x, y_w .

$$(11) \quad \begin{cases} xyz = 4 \\ x + y + z = 4 \end{cases} \quad \text{נתונה מערכת משוואות:}$$

הוכיחו כי $z''(x) + y''(x) = 0$.

$$(12) \quad \begin{cases} x \cos u + y \sin u + \ln z = f(u) \\ -x \sin u + y \cos u = f'(u) \end{cases} \quad \text{נתונה המערכת:}$$

הוכיחו כי:

$$א. \quad (z_x)^2 + (z_y)^2 = z^2$$

$$ב. \quad z_{xy} = z_{yx}$$

*הערה: בסעיף ב' אין להסתמך על משפט הנגזרות המעורבות.

תשובות סופיות

$$y'(0) = \frac{1}{5} \quad (1)$$

$$y'(1) = 5 \quad (2)$$

$$y'(e) = -\frac{2}{e^2}, y''(e) = \frac{6}{e^3} \quad (3)$$

$$z_x(0,0) = z_y(0,0) = -\frac{\sin 1}{2} \quad (4)$$

$$y_x(0,0) = 0, y_z(0,0) = \frac{1}{2e^4} \quad (5)$$

שאלת הוכחה. (6)

$$z_x(1,1) = -16 \quad (7)$$

$$z_{xx}(2,1) = z_{xy}(2,1) = 1, z_{yy}(2,1) = 4 \quad (8)$$

$$u_x = \frac{12v-1}{8uv-1}, u_y = \frac{4v+2}{8uv-1}, v_x = \frac{3-2u}{8uv-1}, v_y = \frac{4u+1}{8uv-1} \quad \left(uv \neq \frac{1}{8} \right). \text{א.} \quad (9)$$

ב. שאלת הוכחה.

$$\frac{\partial w}{\partial x} = -3uv, \frac{\partial w}{\partial y} = \frac{3}{2}(v+u) \quad (u \neq v). \text{א.} \quad (10)$$

$$\frac{\partial y}{\partial x} = -\frac{2uv}{v+u}, \frac{\partial y}{\partial w} = \frac{2}{3(v+u)} \quad (u \neq \pm v). \text{ב.}$$

שאלת הוכחה. (11)

שאלת הוכחה. (12)

חשבון דיפרנציאלי ואינטגרלי ב

פרק 16 - הדיפרנציאל השלם

תוכן העניינים

1. הדיפרנציאל השלם - נוסחת הקירוב הליניארי..... 108

הדיפרנציאל השלם – נוסחת הקירוב הליניארי

שאלות

- (1) חשבו בקירוב: $\ln(0.01^2 + 0.99^2)$.
- (2) בעזרת הדיפרנציאל השלם, מצאו בקירוב את הערך של $\sqrt[4]{15.09 + (0.99)^2}$.
- (3) נחשב את הנפח של גליל על סמך תוצאות המדידה של רדיוסו וגובהו. ידוע שהשגיאה היחסית במדידת הרדיוס אינה עולה על 2%, ושהשגיאה היחסית במדידת הגובה אינה עולה על 4%. הערך את השגיאה היחסית המקסימלית האפשרית בנפח המחושב.
- (4) נתונות שתי צלעות במלבן $a = 10\text{ cm}$, $b = 24\text{ cm}$. חשבו את השינוי המדויק ואת השינוי המקורב (בעזרת דיפרנציאל) של אורך אלכסון המלבן אם את הצלע a יאריכו ב-4 mm ואת הצלע b יקצרו ב-1 mm.
- (5) נמדוד את האורך של תיבה, את רוחבה ואת גובהה. השגיאה היחסית בכל מדידה אינה עולה על 5%. העריכו את השגיאה היחסית המקסימלית האפשרית באורך של אלכסון התיבה, המחושב לפי תוצאות המדידה.

תשובות סופיות

- (1) $\cong -0.01$
- (2) $2\frac{7}{3200}$
- (3) 8%
- (4) שינוי מדויק: 0.06472, שינוי מקורב: 0.06153.
- (5) 5%

חשבון דיפרנציאלי ואינטגרלי ב

פרק 17 - פונקציות הומוגניות-משפט אוילר

תוכן העניינים

| | | |
|-----|-------|-----------------------|
| 109 | | 1. פונקציות הומוגניות |
| 112 | | 2. משפט אוילר |

פונקציות הומוגניות

שאלות

בשאלות 1-3 בדקו האם הפונקציה הומוגנית ומאיזה סדר:

$$f(x, y) = x^3 \sqrt{y} + y^3 \sqrt{x} \quad (1)$$

$$h(x, y) = \frac{\ln(e^{5x})}{\sqrt[3]{ex^6 - 7y^6}} \quad (2)$$

$$f(x, y) = \ln(4^x) \cdot g\left[\frac{\sqrt{xy}}{x+7y}\right] \quad (3)$$

(4) נתון כי $z(x, y)$ פונקציה הומוגנית מסדר 3.

בדקו האם הפונקציה $f(x, y) = \frac{x}{y^4} + \frac{\sqrt{y}}{\sqrt{x^5}} + \frac{1}{z(x, y)} - 4$ הומוגנית.

במידה והפונקציה לא הומוגנית, השמיטו ממנה חלק, כך שתתקבל פונקציה הומוגנית. מהו סדר ההומוגניות של הפונקציה במקרה זה?

(5) מצאו עבור איזה ערך של הפרמטר α , כל אחת מהפונקציות הבאות הומוגניות. כמו כן, מצאו את סדר ההומוגניות עבור ה- α שנמצאה.

א. $f(x, y) = \frac{x^4 y + xy^\alpha}{4x + 10y}$

ב. $f(x, y) = \sqrt{\frac{y}{x}} (\ln \alpha x - \ln y)$

6) בתרגיל זה נדגים את התכונה הבאה של פונקציות הומוגניות :
אם פונקציה היא הומוגנית מסדר n , אז אם נחלק אותה ב- x^n ,

$$\text{נקבל פונקציה של } \frac{y}{x}.$$

א. הדגימו את הטענה על הפונקציות הבאות :

$$1. f(x, y) = x^2 - xy + 2y^2$$

$$2. f(x, y) = \sqrt{x+y}$$

ב. הוכיחו את הטענה לעיל.

הערה

ניסוח פורמלי של הטענה לעיל הוא :

אם פונקציה היא הומוגנית מסדר n , אז קיימת פונקציה $g(t)$, כך ש- $t = \frac{y}{x}$,

$$\text{המקיימת } \frac{f(x, y)}{x^n} = g(t)$$

7) תהינה f ו- g פונקציות ב- n משתנים, והומוגניות מסדר r_1 ו- r_2 , בהתאמה. קבעו, לכל אחת מהפונקציות הבאות, אם היא הומוגנית ומאיזה דרגה :

$$\text{א. } f \cdot g \quad \text{ב. } \frac{f}{g} \quad \text{ג. } \frac{(f)^2}{\sqrt[n]{g}} \quad \text{ד. } f + g$$

8) נתון כי f פונקציה הומוגנית מסדר 4.

$$\text{ידוע כי } f(1, 2) = 4, f_x(1, 2) = 10$$

$$\text{חשבו את } f(2, 4), f(0.5, 1), f_x(2, 4), f_x(1.5, 3)$$

9) נתונה פונקציה $f(x, y) = x^4 + y^2 z(x, y)$.

$$\text{ידוע כי } z \text{ פונקציה הומוגנית מסדר 2 וכי } f(4, 10) = 1$$

$$\text{א. חשבו את } f(2, 5)$$

$$\text{ב. ידוע כי } f_x(1, 1) = 4$$

$$\text{חשבו את } f_x(a, a), \text{ לכל קבוע } a$$

תשובות סופיות

- (1) הומוגנית מסדר 3.5.
- (2) הומוגנית מסדר -1.
- (3) הומוגנית מסדר 1.
- (4) הפונקציה לא הומוגנית. על ידי השמטת חלקים מהפונקציה אפשר לקבל:
- $f(x, y) = \frac{x}{y^4} + \frac{1}{z(x, y)}$ הומוגנית מסדר -3.
- $f(x, y) = \frac{\sqrt{y}}{\sqrt{x^5}}$ הומוגנית מסדר -2.
- $f(x, y) = -4$ הומוגנית מסדר 0.
- (5) א. עבור $\alpha = 4$ הפונקציה הומוגנית מסדר 4. ב. הומוגנית מסדר 0 לכל $\alpha > 0$.
- (6) א.1. $g(t) = 1 - t + 2t^2$. 2. $g(t) = \sqrt{1+t}$. ב. הוכחה.
- (7) א. הומוגנית מדרגה $r_1 + r_2$. ב. הומוגנית מדרגה $r_1 - r_2$.
- ג. הומוגנית מדרגה $2r_1 - \frac{r_2}{n}$.
- ד. הומוגנית מדרגה r_1 רק אם $r_1 = r_2$. אחרת לא הומוגנית.
- (8) $f_x(2, 4) = 80$, $f_x(1.5, 3) = 33.75$, $f(2, 4) = 64$, $f(0.5, 1) = \frac{1}{4}$
- (9) א. $f(2, 5) = \frac{1}{16}$. ב. $f_x(a, a) = 4a^3$.

משפט אוילר

שאלות

(1) נתונה הפונקציה $f(x, y) = x^2 - xy + 2y^2$.

- א. הוכיחו שהפונקציה הומוגנית ומצאו את דרגתה.
 ב. הראו שמשפט אוילר מתקיים.

(2) ענו על הסעיפים הבאים:

א. נניח ש- $f = f(x, y)$ הומוגנית מסדר 0.

הוכיחו כי $\frac{f_x}{f_y} = -\frac{y}{x}$.

ב. נתון כי $f(x, y) = \frac{e^{\frac{x}{y}}(x+y)}{(x-y)(\ln x - \ln y)}$.

הוכיחו כי $x \cdot f_x = -y \cdot f_y$.

(3) ענו על הסעיפים הבאים:

א. הוכיחו כי פונקציית התועלת $u(x, y) = \left(\frac{1}{2}x^m + \frac{1}{2}y^m\right)^{1/m}$ הומוגנית.

הניחו כי m קבוע חיובי.

ב. הוכיחו, ללא חישוב ישיר של הנגזרות, כי $u_y(a, a) = u_y(1, 1)$.

ג. הוכיחו, ללא חישוב ישיר של הנגזרות, כי $u_x(2, 2) + u_y(1, 1) = 1$.

(4) תהי f פונקציה הומוגנית מסדר 2,

ונגדיר $h(x, y) = x^2 - y^2 + f\left(\frac{x^2}{y}, \frac{y^2}{x}\right)$.

א. הוכיחו כי h הומוגנית מסדר 2.

ב. נתון: $f(8, 1) = 16$, $h'_x(6, 3) = 9$.

מצאו את $h(2, 1)$ ואת $h'_y(2, 1)$.

(5) g ו- h הינן פונקציות הומוגניות מסדר 2 ו-10, בהתאמה. נגדיר:

$$f(x, y) = (x + y)h(x, y) + \frac{\sqrt{g(x, y)}}{x^2 + y^2}$$

א. הוכיחו כי f הומוגנית מסדר 3.

ב. נתון: $f'_y(1, 8) = 3$, $h(4, 32) = 16$, $f'_x(2, 16) = 12$,

מצאו את $f(1, 8)$ ואת $g(1, 8)$.

(6) f הומוגנית מסדר 4, g הומוגנית מסדר 2 ו- h הומוגנית מסדר 0.

נגדיר פונקציה $p(x, y) = f(x, y) + g(x, y) - h(x, y)$.

נתון: $f'_x(2, 4) = 64$, $f'_y(-1, -2) = -4$, $h\left(\frac{1}{2}, 1\right) = \frac{5}{2}$, $p(1, 2) = \frac{7}{2}$

חשבו את $g\left(\frac{1}{2}, 1\right)$.

(7) הפונקציה $f(x, y)$ הומוגנית מסדר 3. הנתונים בשרטוט.

א. מצאו את שיעורי הנקודה B.

ב. מצאו את ערך הסכום $f'_x(4, 8) + 2f'_y(4, 8)$.

ג. נגדיר פונקציה חדשה $u(x, y)$,

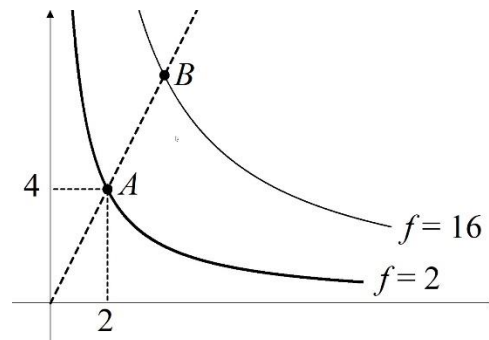
$$u(x, y) = (f(x, y))^2$$

1. לפי כללי הגזירה, מתקיים $u_x(x, y) = 2 \cdot f(x, y) \cdot f'_x(x, y)$.

הסבירו זאת בקצרה.

2. הוכיחו כי $x \cdot u_x(x, y) + y \cdot u_y(x, y) = 6(f(x, y))^2$.

היעזרו בסעיף הקודם ובנתונים על f .



8) תהי $f(x, y)$ פונקציה הומוגנית מסדר m ,

$$f(2,1) = 27 \text{ ו- } f(6,3) = 243.$$

א. מצאו את סדר ההומוגניות, m .

ב. בנקודה $(2,1)$ עוברת עש״ע של f .

העבירו משיק לעש״ע בנקודה הנ״ל.

$$2x + 3y = 7.$$

מצאו את $f_x(2,1)$, $f_y(2,1)$, $f_x(1,0.5)$.

9) תהי $g(t)$ פונקציה של משתנה אחד.

$$g(4) = 5, g(1) = 3, g'(8) = 2 \text{ ידוע, כי}$$

$$t = \frac{4y}{x} \text{ המשתנה } t \text{ תלוי במשתנים החיוביים } (x, y), \text{ כך:}$$

נגדיר תועלת u כפונקציה של המשתנים (x, y) , באופן הבא:

$$u(x, y) = g(t) = g\left(\frac{4y}{x}\right)$$

א. באיור שלהלן קרן עם שיפוע 1.

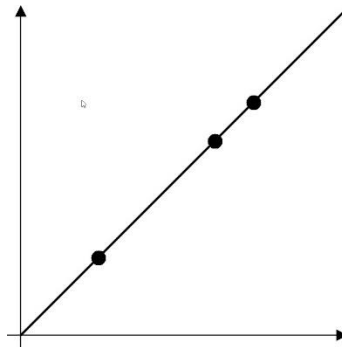
מה הערך של התועלת בנקודות המסומנות על הקרן?

ב. הוכיחו כי הקרן $4y - x = 0$ היא עקומת אדישות של התועלת.

ציירו את הקרן הזאת ורשמו באיור מה הערך של התועלת.

ג. הוכיחו כי התועלת היא פונקציה הומוגנית. מהו סדר ההומוגניות?

ד. הוכיחו כי $u_x(1,2) = -16$.



10) נניח ש- $f = f(x, y)$ הומוגנית מסדר 1.

$$x^2 f_{xx} + 2xy f_{xy} + y^2 f_{yy} = 0 \text{ הוכיחו כי}$$

11 הוכיחו או הפריכו כל אחת מהטענות הבאות :

א. אם $f_x(x, y)$ הומוגנית מסדר 4, אז $f(x, y)$ הומוגנית מסדר 5.

ב. אם פונקציה $f(x, y)$ מקיימת $f(2, 4) = 2^3 f(1, 2)$,

אז הפונקציה הומוגנית מסדר 3.

תשובות סופיות

(1) שאלת הוכחה.

(2) שאלת הוכחה.

(3) שאלת הוכחה.

(4) א. שאלת הוכחה. ב. $h(2, 1) = 4$ $h'_y(2, 1) = 8$

(5) א. שאלת הוכחה. ב. $g(1, 8) = 0$, $f(1, 8) = 9$.

(6) $-\frac{3}{4}$

(7) א. $B(4, 8)$ ב. 12 ג. שאלת הוכחה והסבר.

(8) א. 2 ב. $f_x(1, 0.5) = \frac{54}{7}$, $f_y(2, 1) = -\frac{3\left(\frac{108}{7}\right)}{2}$, $f_x(2, 1) = \frac{108}{7}$,

(9) א. 5 ב-ד. שאלות הוכחה.

(10) שאלת הוכחה.

(11) א. הטענה אינה נכונה. ב. הטענה אינה נכונה.

חשבון דיפרנציאלי ואינטגרלי ב

פרק 18 - קיצון ואוכף לפונקציה של שני משתנים

תוכן העניינים

1. קיצון ואוכף לפונקציה של שני משתנים 116

קיצון ואוכף לפונקציה של שני משתנים

שאלות

עבור כל אחת מהפונקציות בשאלות 1-8, מצאו נקודות קריטיות וסווגו אותן למקסימום, מינימום או אוכף:

$$f(x, y) = 8x^3 + 12xy + 3y^2 - 18x \quad (1)$$

$$f(x, y) = x^3 + y^3 - 3x - 12y + 20 \quad (2)$$

$$f(x, y) = x^3 + y^3 - 3xy + 4 \quad (3)$$

$$f(x, y) = 3x - x^3 - 2y^2 + y^4 \quad (4)$$

$$f(x, y) = e^{4y-x^2-y^2} \quad (5)$$

$$f(x, y) = y\sqrt{x} - y^2 - x + 6y \quad (6)$$

$$f(x, y) = \frac{x^2y^2 - 8x + y}{xy} \quad (7)$$

$$f(x, y) = e^x \cos y \quad (8)$$

(9) נתון משטח $z = x^3 + y^3 - 3xy + 4$. מצאו את משוואות המישורים המשיקים האופקיים למשטח.

(10) מבין כל התיבות הפתוחות שנפחן 32 סמ"ק, חשבו את ממדי התיבה ששטח הפנים שלה הוא מינימלי.

(11) מצאו את המרחק הקצר ביותר מהנקודה $(1, 2, 3)$ למישור $-2x - 2y + z = 0$, וכן את הנקודה על המישור הקרובה ביותר לנקודה הנ"ל.

- 12** יצרן מוכר מחשבונים, בארץ ובסין. עלות הייצור של מחשבון בארץ היא \$6 ועלות ייצור מחשבון בסין היא \$8. מנהל השיווק אומד את הביקוש Q_1 למחשבון בארץ, ואת הביקוש Q_2 למחשבון בסין, על ידי: $Q_1 = 116 - 30P_1 + 20P_2$, $Q_2 = 144 + 16P_1 - 24P_2$. כיצד צריכה החנות לקבוע את מחירי המחשבונים, P_1 ו- P_2 , על מנת למקסם את הרווח? מהו רווח זה?

- 13** נתונה הפונקציה $f(x, y) = x^2 + y^2 + axy$.
- א. הוכיחו שהנקודה $(0, 0)$ היא נקודה קריטית.
- ב. בעזרת מבחן הנגזרת השנייה, קבעו עבור אילו ערכים של a הנקודה מסעיף א' היא מקסימום, מינימום, אוכלף, או שלא ניתן לדעת.

- 14** מצאו שני מספרים, $b > a$, כך ש- $\int_a^b (24 - 2x - x^2)^{\frac{1}{5}} dx$ יהיה מקסימלי.

תשובות סופיות

- 1** $(-0.5, 1)$ אוכלף; $(1.5, -3)$ מינימום.
- 2** $(1, 2)$ מינימום; $(-1, -2)$ מקסימום; $(-1, 2)$, $(1, -2)$ אוכלף.
- 3** $(0, 0)$ אוכלף; $(1, 1)$ מינימום.
- 4** $(-1, -1)$, $(-1, 1)$ מינימום; $(1, 0)$ מקסימום; $(1, -1)$, $(1, 1)$, $(-1, 0)$ אוכלף.
- 5** $(0, 2)$ מקסימום.
- 6** $(4, 4)$ מקסימום.
- 7** $(-0.5, 4)$ מקסימום.
- 8** אין נקודות קריטיות.
- 9** $z = 4$, $z = 3$
- 10** רוחב 4 ס"מ, אורך 4 ס"מ, גובה 2 ס"מ.
- 11** מרחק מינימלי הוא 1 יחידות אורך. נקודה קרובה ביותר $(1/3, 4/3, 10/3)$.
- 12** $P_1 = 10\$$, $P_2 = 12\$$ רווח מקסימלי \$288.
- 13** א. שאלת הוכחה. ב. עבור $a = 2$, $a = -2$, לא ניתן לדעת; $a > 2$, $a < -2$ אוכלף; $-2 < a < 2$ מינימום.
- 14** $a = -6$, $b = 4$

חשבון דיפרנציאלי ואינטגרלי ב

פרק 19 - קיצון של פונקציה רבת משתנים (מתקדם) - ריבועים פחותים

תוכן העניינים

1. קיצון של פונקציה רבת משתנים..... 118

קיצון של פונקציה רבת משתנים (מתקדם) – ריבועים פחותים

שאלות

מצאו את נקודות הקיצון של הפונקציות בשאלות 1-5:

$$f(x, y) = 1 + 2xy - x^2 - y^2 \quad (1)$$

$$f(x, y) = 4 - \sqrt{x^2 + y^2} \quad (2)$$

$$(z = f(x, y)) \quad z^3 + z + xy - 2x - y + 2 = 0 \quad (3)$$

$$f(x, y) = x^3 - y^3 - 3x^2 + 6y^2 + 3x - 12y + 8 \quad (4)$$

$$(x, y, z > 0) \quad f(x, y, z) = x + \frac{y^2}{4x} + \frac{z^2}{y} + \frac{2}{z} \quad (5)$$

(6) מצאו מרחק מינימלי בין הפרבולה $y = x^2 + 1$, לפרבולה $y = -x^2 + 2x$.
* לפתרון תרגיל זה נדרש ידע בפתרון נומרי (מקורב) של משוואה, כגון שיטת ניוטון רפסון.

בשאלות 7-11 נתונות n נקודות, $(x_1, y_1), (x_2, y_2), \dots, (x_n, y_n)$, ויש למצוא קו עקום מהצורה $y = h(x)$, כך ששכום ריבועי המרחקים האנכיים בין העקום והנקודות יהיה מינימלי.

$$h(x) = ax + b, \text{ הדגימו עבור הנקודות } (2, 2.5), (1, 0.8), (3, 3.2), (4, 3.5) \quad (7)$$

$$h(x) = ax^2 + bx, \text{ הדגימו עבור הנקודות } (-1, 2), (2, 0), (0, -2) \quad (8)$$

$$h(x) = ax + \frac{b}{x}, \text{ הדגימו עבור הנקודות } (10, 20.2), (6, 12.9), (4, 8.5), (0.5, 4) \quad (9)$$

$$h(x) = ax^2 + \frac{b}{x^2}, \text{ הדגימו עבור הנקודות } (4, 33), (2, 8.5), (0.5, 2.3), (1, 4.5), (0.1, 90) \quad (10)$$

(11) $h(x) = ax^2 + bx + c$, הדגימו עבור $(1, 4.5), (0.5, 2.3), (0, 0.8), (-1, 0.1), (-0.5, 0.12)$.

(12) נתונות n נקודות: $(x_1, y_1), (x_2, y_2), \dots, (x_n, y_n)$.

מצאו ישר $y = ax + b$, כך שסכום ריבועי המרחקים האנכיים בין הישר והנקודות יהיה מינימלי.
יש להגיע לנוסחה מפורשת עבור a ו- b .

הערה: בשאלות 11 ו-12 ניתן להניח ש- a ו- b , המתקבלים מפתרון המשוואות $f_a = 0, f_b = 0$,

נותנים את המינימום המוחלט של פונקציית ריבועי המרחקים האנכיים $f(a, b) = \sum_{i=1}^n (h(x_i) - y_i)^2$.

תשובות סופיות

(1) (t, t) לכל t ממשי, מקסימום.

(2) $(0, 0)$ מקסימום.

(3) אין קיצון. $(1, 2)$ אוסף.

(4) אין קיצון. $(1, 2)$ אוסף.

(5) מינימום $(0.5, 1.1)$.

(6) 0.375

(7) $y = 0.88x + 0.3$

(8) $y = \frac{2}{3}x^2 - \frac{4}{3}x$

(9) $y = 2.032x + \frac{1.5039}{x}$

(10) $y = 2.06x^2 + \frac{0.9}{x^2}$

(11) $y = 1.48x^2 + 2.196x + 0.824$

$$a = \frac{n \sum_{i=1}^n y_i x_i - \sum_{i=1}^n y_i \sum_{i=1}^n x_i}{n \sum_{i=1}^n x_i^2 - \left(\sum_{i=1}^n x_i \right)^2}, \quad b = \frac{\sum_{i=1}^n y_i \sum_{i=1}^n x_i^2 - \sum_{i=1}^n y_i x_i \sum_{i=1}^n x_i}{n \sum_{i=1}^n x_i^2 - \left(\sum_{i=1}^n x_i \right)^2} \quad (12)$$

חשבון דיפרנציאלי ואינטגרלי ב

פרק 20 - קיצון של פונקציה של שני משתנים תחת אילוץ (כופלי לגראנז')

תוכן העניינים

1. קיצון של פונקציה של שני משתנים תחת אילוץ.....120

קיצון של פונקציה של שני משתנים תחת אילוץ (כופלי לגראנז')

שאלות

בשאלות 1-4 מצאו את המקסימום והמינימום של הפונקציות, בכפוף לאילוץ הנתון:

$$f(x, y) = x^2 + y^2; \quad 2x^2 + 3xy = 1 - 2y^2 \quad (1)$$

$$f(x, y) = x^2 - y^2; \quad x^2 + y^2 = 1 \quad (2)$$

$$f(x, y) = 4x + 6y; \quad x^2 + y^2 = 13 \quad (3)$$

$$f(x, y) = x^2 y; \quad x^2 + 2y^2 = 6 \quad (4)$$

$$(5) \quad \text{נתונה בעיית הקיצון } \max\{xy\} \text{ s.t. } x + 3y = 12 \text{ , כאשר } x, y > 0.$$

א. פתרו את הבעיה.

ב. הביאו פתרון גרפי לבעיה.

$$(6) \quad \text{נתונה בעיית הקיצון } \max\{2x + y\} \text{ s.t. } \sqrt{x} + \sqrt{y} = 9 \text{ , כאשר } x, y \geq 0.$$

א. פתרו את הבעיה.

ב. הביאו פתרון גרפי לבעיה.

$$(7) \quad \text{מבין כל הנקודות הנמצאות על הישר } x + 3y = 12,$$

מצאו את זו שמכפלת שיעוריה מקסימלי.

$$(8) \quad \text{מבין כל הנקודות שעל העקומה } 2x^2 + 3xy = 1 - 2y^2, \text{ מצאו את הנקודות}$$

שמרחקן מראשית הצירים הוא מינימלי, ואת הנקודות שמרחקן מראשית

הצירים הוא מקסימלי.

$$(9) \quad \text{מצאו את המרחק הקצר ביותר מהישר } 3x - 6y + 4 = 0$$

$$\text{לפרבולה } x^2 + 2xy + y^2 + 4y = 0.$$

$$\text{רמז: מרחק הנקודה } (x_0, y_0) \text{ מהישר } ax + by + c = 0, \text{ הוא } \frac{|ax_0 + by_0 + c|}{\sqrt{a^2 + b^2}}.$$

- 10** מוישליה קונה בשוק x ק"ג מלפפונים ו- y ק"ג עגבניות. התועלת מצריכת הסל, (x, y) , נתונה על ידי $u(x, y) = \ln x + \ln y$. מחיר ק"ג מלפפונים 1 ש"ח, ומחיר ק"ג עגבניות 2 ש"ח. מוישליה קובע לעצמו להשיג רמת תועלת $\ln 16$, והוא מעוניין להשיג זאת בעלות מינימאלית. נסחו ופתרו את בעיית מוישליה.
- 11** דני קונה בשוק x ק"ג מלפפונים ו- y ק"ג עגבניות. התועלת מצריכת הסל (x, y) נתונה על ידי $u(x, y) = xy$. מחיר ק"ג מלפפונים 1 ש"ח, ומחיר ק"ג עגבניות 3 ש"ח. לדני תקציב של 12 ש"ח. נסחו ופתרו את בעיית דני.
- 12** עקומת התמורה בין מנגו, (x) , ואננס, (y) , היא $x^2 + y^2 = 13$. לדני תועלת $f(x, y) = 4x + 6y$. דני מחפש את הסל (אננס, מנגו) (x, y) על עקומת התמורה, המביא למקסימום את התועלת שלו מצריכת מנגו ואננס. נסחו ופתרו את הבעיה.
- 13** ליצרן פונקציית ייצור $Q = \sqrt{k} + \sqrt{L}$. המחירים ליחידת K ו- L הם $P_K = 2, P_L = 1$. היצרן נמצאו ברמת תפוקה 100 והוא מחפש את הצירוף (K^*, L^*) , המביא למינימום את העלות. נסחו את בעיית היצרן (לא לפתור).
- 14** נתונה בעיית קיצון תחת אילוץ $\max\{u(x, y)\} \text{ s.t. } p_1x + p_2y = I$. תהי (x^*, y^*) נקודת הפתרון של הבעיה. ניתן להניח מצב קלאסי של השקה. הוכיחו כי כופל לגראנז' λ מקיים $\lambda = \frac{x \cdot u_x + y \cdot u_y}{I}$ בנקודת הפתרון של הבעיה.

תשובות סופיות

$$\max(\pm 1, \mp 1) \quad \min(\pm\sqrt{1/7}, \pm\sqrt{1/7}) \quad (1)$$

$$\min(0, \pm 1) \quad \max(\pm 1, 0) \quad (2)$$

$$\max(2, 3) \quad \min(-2, -3) \quad (3)$$

$$\max(\pm 2, 1) \quad \min(\pm 2, -1) \quad (4)$$

$$\max(6, 2) \quad (5)$$

$$\max(9, 36) \quad (6)$$

$$(6, 2) \quad (7)$$

$$\max(\pm 1, \mp 1) \quad \min(\pm\sqrt{1/7}, \pm\sqrt{1/7}) \quad (8)$$

$$7 / \sqrt{45} \quad (9)$$

$$\min(\sqrt{32}, \sqrt{8}) \quad (10)$$

$$\max(6, 2) \quad (11)$$

$$\max(2, 3) \quad (12)$$

$$\min\{2K + L\}; \quad \sqrt{K} + \sqrt{L} = 100 \quad (13)$$

$$\text{שאלת הוכחה.} \quad (14)$$

חשבון דיפרנציאלי ואינטגרלי ב

פרק 21 - קיצון של פונקציה של שלושה משתנים תחת אילוצים

תוכן העניינים

1. קיצון של פונקציה של שלושה משתנים תחת אילוצים 123

קיצון של פונקציה של שלושה משתנים תחת אילוצים

שאלות

- (1) מבין כל התיבות הפתוחות שנפחן 32 סמ"ק, חשבו את ממדי התיבה ששטח הפנים שלה הוא מינימלי.
- (2) מצאו על פני הכדור $x^2 + y^2 + z^2 = 36$ את הנקודות הקרובות ביותר לנקודה $(1, 2, 2)$ ואת הנקודות הרחוקות ביותר מהנקודה $(1, 2, 2)$.
- (3) ענו על הסעיפים הבאים:
 א. מצאו את המרחק הקצר ביותר מהנקודה $(1, 2, 3)$ למישור $-2x - 2y + z = 0$.
 ב. מצאו נקודה על המישור $-2x - 2y + z = 0$, שהיא הקרובה ביותר לנקודה $(1, 2, 3)$.
 ג. בדקו את התשובה על ידי חישוב המרחק בעזרת הנוסחה למרחק בין נקודה למישור.
- (4) מצאו את הנקודות על המשטח $z^2 = xy + 1$ הקרובות ביותר לראשית.
- (5) מצאו את המרחק הגדול ביותר והקטן ביותר מהאליפסואיד $\frac{x^2}{96} + y^2 + z^2 = 1$ למישור $3x + 4y + 12z = 288$. רמז: מרחק הנקודה (x_0, y_0, z_0) מהמישור $ax + by + cz + d = 0$, הוא $\frac{|ax_0 + by_0 + cz_0 + d|}{\sqrt{a^2 + b^2 + c^2}}$.
- (6) מצאו מרחק מינימלי ומקסימלי בין העקום המתקבל מחיתוך הגליל $x^2 + y^2 = 1$ והמישור $z = x + y$ לבין ראשית הצירים.
- (7) מצאו מרחק מינימלי ומקסימלי בין העקום המתקבל מחיתוך האליפסואיד $\frac{x^2}{4} + \frac{y^2}{5} + \frac{z^2}{25} = 1$ והמישור $z = x + y$, לבין ראשית הצירים.

הערה חשובה

בפתרון מרבית התרגילים בפרק זה, אנו מסיקים שנקודה קריטית היא נקודת קיצון משיקולים פסיקליים או גיאומטריים, היות ומדובר בבעיות מעשיות. ישנן דרכים מתמטיות מתקדמות להוכיח פורמלית, אך מאחר ולא נהוג ללמד אותן ברוב מוסדות הלימוד, הסתפקנו בכך.

תשובות סופיות

- (1) רוחב 4 ס"מ, אורך 4 ס"מ, גובה 2 ס"מ.
- (2) הנקודה הקרובה ביותר היא הנקודה $(2, 4, 4)$, והנקודה הרחוקה ביותר היא הנקודה $(-2, -4, -4)$.
- (3) א. מרחק מינימלי הוא 1 יחידות אורך.
ב. הנקודה הקרובה ביותר $(\frac{1}{3}, \frac{4}{3}, \frac{10}{3})$.
- (4) $(0, 0, 1)$, $(0, 0, -1)$
- (5) המרחק הקצר ביותר $\frac{256}{13}$. המרחק הארוך ביותר $\frac{320}{13}$.
- (6) מרחק מינימלי 1. מרחק מקסימלי $\sqrt{3}$.
- (7) מרחק מינימלי $\frac{75}{17}$. מרחק מקסימלי 10.

חשבון דיפרנציאלי ואינטגרלי ב

פרק 22 - קיצון מוחלט של פונקציה בשני משתנים בקבוצה סגורה וחסומה

תוכן העניינים

1. קיצון מוחלט של פונקציה בשני משתנים בקבוצה סגורה וחסומה 125

קיצון מוחלט של פונקציה בשני משתנים – בקבוצה סגורה וחסומה

שאלות

- (1) חשבו את המקסימום המוחלט ואת המינימום המוחלט של $f(x, y) = 3xy - 6x - 3y + 7$ בתחום R , כאשר R הוא התחום הסגור, בצורת משולש שקודקודיו הם $(0, 5), (3, 0), (0, 0)$.
- (2) חשבו את המקסימום המוחלט ואת המינימום המוחלט של $f(x, y) = x^2 - 3y^2 - 2x + 6y$ בתחום R , כאשר R הוא התחום הסגור, בצורת ריבוע שקודקודיו הם $(2, 0), (2, 2), (0, 2), (0, 0)$.
- (3) חשבו את המקסימום המוחלט ואת המינימום המוחלט של $f(x, y) = x^2 + 2y^2 - x$ בתחום R , כאשר R הוא העיגול $x^2 + y^2 \leq 4$.
- (4) חשבו את המקסימום המוחלט ואת המינימום המוחלט של $f(x, y) = x^2 + y^2 - xy + x + y$ בתחום R , כאשר R הוא התחום הסגור $R = \{(x, y) \mid x + y \geq -3, x \leq 0, y \leq 0\}$.
- (5) חשבו את המקסימום המוחלט ואת המינימום המוחלט של $f(x, y) = x^2 + y^2 - 12x + 16y$ בתחום R , כאשר R הוא התחום הסגור $R = \{(x, y) \mid x^2 + y^2 \leq 1, 3x \geq -y\}$.

תשובות סופיות

- (1) מקסימום מוחלט 7. מינימום מוחלט -11.
- (2) מקסימום מוחלט 3. מינימום מוחלט -1.
- (3) מקסימום מוחלט $\frac{33}{4}$. מינימום מוחלט $-\frac{1}{4}$.
- (4) מקסימום מוחלט 6. מינימום מוחלט -1.
- (5) מקסימום מוחלט $1 + 6\sqrt{10}$. מינימום מוחלט $1 - 6\sqrt{10}$.

חשבון דיפרנציאלי ואינטגרלי ב

פרק 23 - עקומת לורנץ ומדד ג'יני

תוכן העניינים

1. עקומת לורנץ ומדד ג'יני 126

עקומת לורנץ ומדד ג'יני

שאלות

(1) הוכיחו שהפונקציה $f(x) = \frac{x^2}{8} + \frac{7x}{8}$ יכולה לשמש כעקומת לורנץ, וחשבו את מדד GINI עבורה.

(2) הוכיחו שהפונקציה $f(x) = \frac{4x^2}{2x+2}$ יכולה לשמש כעקומת לורנץ, וחשבו את מדד GINI עבורה.

(3) הוכיחו שהפונקציה $f(x) = \frac{2x}{9} + \frac{7x^2}{9}$ יכולה לשמש כעקומת לורנץ, וחשבו את מדד GINI עבורה.

(4) הוכיחו שהפונקציה $f(x) = \frac{x^2}{3} + \frac{2x}{3}$ יכולה לשמש כעקומת לורנץ, וחשבו את מדד GINI עבורה.

(5) חשבו את מדד GINI עבור $f(x) = \frac{x^7(x^4+2)}{3}$.

(6) מהו הערך של n , אם ידוע שהפונקציה $f(x) = \frac{x^n}{8} + \frac{7x^{n-1}}{8}$ יכולה לשמש כעקומת לורנץ?

תשובות סופיות

$$\frac{1}{24} \quad (1)$$

$$3 - 4 \ln 2 \quad (2)$$

$$\frac{7}{27} \quad (3)$$

$$\frac{1}{9} \quad (4)$$

$$\frac{7}{9} \quad (5)$$

$$n > 2 \quad (6)$$

חשבון דיפרנציאלי ואינטגרלי ב

פרק 24 - המשתנה המקרי הרציף - התפלגויות כלליות (שימוש באינטגרלים)

תוכן העניינים

1. כללי 128

המשתנה המקרי הרציף – התפלגויות כלליות (שימוש באינטגרלים)

רקע:

בפרק זה נעסוק בהתפלגות של משתנים מקריים רציפים (גובה אדם אקראי, זמן תגובה וכו'). משתנים רציפים הם משתנים שבתחום מסוים מקבלים רצף אינסופי של ערכים אפשריים בניגוד למשתנים בדידים. נתאר את המשתנה המקרי הרציף על ידי פונקציה הנקראת פונקציית צפיפות.

באופן כללי נסמן פונקציית צפיפות של משתנה רציף כלשהו ב- $f(x)$. השטח שמתחת לפונקציית הצפיפות נותן את ההסתברות. פונקציית צפיפות חייבת להיות לא-שלילית והשטח הכולל שמתחת לפונקציה יהיה תמיד 1.

הגדרות יסודיות:

יהא משתנה רציף X בעל פונקציית צפיפות $f(x)$.

פונקציית התפלגות מצטברת:

פונקציית ההתפלגות המצטברת מוגדרת באופן הבא: $F(t) = p(X \leq t) = \int_{-\infty}^t f(x) dx$
 כמו כן מתקיים: $p(X > t) = 1 - F(t)$ ו- $p(a < X < b) = F(b) - F(a)$.

תוחלת ושונות של משתנה רציף:

תוחלת של משתנה רציף תחושב באופן הבא: $E(X) = \int_{-\infty}^{\infty} X \cdot f(x) dx = \mu$
 שונות של משתנה רציף תחושב באופן הבא: $V(X) = \int_{-\infty}^{\infty} X^2 \cdot f(x) dx - \mu^2 = \sigma^2$

תוחלת של פונקציה של X :

תוחלת של פונקציית משתנה רציף X , המסומנת: $g(x)$, תחושב באופן

$$\text{הבא: } E(g(x)) = \int_{-\infty}^{\infty} g(x) f(x) dx$$

אחוזונים:

האחוזון ה- p הוא ערך (נסמן אותו: x_p), שהסיכוי ליפול מתחתיו הוא p .

$$\text{כלומר: } p(X \leq x_p) = p$$

ריענון מתמטי:

נוסחאות לחישוב שטחים

$$S_{\text{triangle}} = \frac{h \cdot a}{2} : \text{ שטח משולש: גובה } (h) \text{ כפול הבסיס } (a) \text{ חלקי } 2$$

$$S_{\text{rectangle}} = a \cdot b : \text{ שטח מלבן: אורך } (a) \text{ כפול רוחב } (b)$$

משוואת קו ישר:

משוואת ישר מפורשת תסומן: $y = mx + n$, כאשר m הוא שיפוע הישר ו- n היא נקודת החיתוך של הישר עם ציר ה- y .

$$m = \frac{y_2 - y_1}{x_2 - x_1} : \text{ שיפוע ישר העובר דרך שתי נקודות: } (x_1, y_1), (x_2, y_2) \text{ הוא}$$

משוואת ישר שעובר דרך נקודה ספציפית (x_1, y_1) ושיפועו הוא m , תחושב באופן

$$\text{הבא: } y - y_1 = m(x - x_1)$$

אינטגרלים מידיים:

$$\int adx = ax + c$$

$$\int x^n dx = \frac{x^{n+1}}{n+1} + c \quad n \neq -1$$

$$\int \frac{1}{x} dx = \ln |x| + c$$

$$\int e^x dx = e^x + c$$

$$\int k^x dx = \frac{k^x}{\ln k} + c$$

$$\int \cos x dx = \sin x + c$$

$$\int \sin x dx = -\cos x + c$$

$$\int \tan x dx = -\ln |\cos x| + c$$

$$\int \cot x dx = \ln |\sin x| + c$$

$$\int \frac{1}{\cos^2 x} dx = \tan x + c$$

$$\int \frac{1}{\sin^2 x} dx = -\cot x + c$$

$$\int (ax+b)^n dx = \frac{1}{a} \frac{(ax+b)^{n+1}}{n+1} + c \quad n \neq -1$$

$$\int \frac{1}{ax+b} dx = \frac{1}{a} \ln |ax+b| + c$$

$$\int e^{ax+b} dx = \frac{1}{a} e^{ax+b} + c$$

$$\int k^{ax+b} dx = \frac{1}{a} \frac{k^{ax+b}}{\ln k} + c$$

$$\int \cos(ax+b) dx = \frac{1}{a} \sin(ax+b) + c$$

$$\int \sin(ax+b) dx = -\frac{1}{a} \cos(ax+b) + c$$

$$\int \tan(ax+b) dx = -\frac{1}{a} \ln |\cos(ax+b)| + c$$

$$\int \cot(ax+b) dx = \frac{1}{a} \ln |\sin(ax+b)| + c$$

$$\int \frac{1}{\cos^2(ax+b)} dx = \frac{1}{a} \tan(ax+b) + c$$

$$\int \frac{1}{\sin^2(ax+b)} dx = -\frac{1}{a} \cot(ax+b) + c$$

$$\int \frac{1}{\cos x} dx = \ln \left| \frac{1}{\cos x} + \tan x \right| + c$$

$$\int \frac{1}{x^2+a^2} dx = \frac{1}{a} \arctan \left(\frac{x}{a} \right) + c$$

$$\int \frac{1}{\sqrt{a^2-x^2}} dx = \arcsin \left(\frac{x}{a} \right) + c$$

$$\int \frac{1}{\sin x} dx = \ln \left| \frac{1}{\sin x} - \cot x \right| + c$$

$$\int \frac{1}{x^2-a^2} dx = \frac{1}{2a} \ln \left| \frac{x-a}{x+a} \right| + c$$

$$\int \frac{1}{\sqrt{x^2 \pm a^2}} dx = \ln |x + \sqrt{x^2 \pm a^2}| + c$$

$$\int \frac{f'}{f} dx = \ln |f| + c$$

$$\int e^f \cdot f' dx = e^f + c$$

$$\int \sin f \cdot f' dx = -\cos(f) + c$$

$$\int \sqrt{f} \cdot f' dx = \frac{2}{3} f^{\frac{3}{2}} + c$$

$$\int f \cdot f' dx = \frac{1}{2} f^2 + c$$

$$\int \cos f \cdot f' dx = \sin(f) + c$$

$$\int \frac{f'}{\sqrt{f}} dx = 2\sqrt{f} + c$$

$$\int u \cdot v' dx = u \cdot v - \int u' \cdot v dx$$

שאלות:

(1) X הינו משתנה רציף עם פונקציית צפיפות כמוצג בשרטוטו:

א. מצאו את ערכו של c .

ב. בנו את פונקציית ההתפלגות המצטברת.

ג. חשבו את ההסתברויות הבאות:

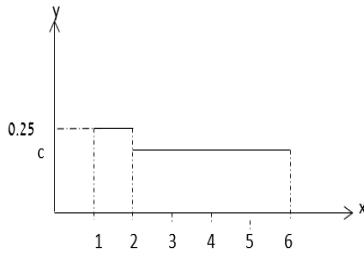
i. $P(x < 4)$

ii. $P(x > 1.5)$

iii. $P(1.5 < x < 5)$

iv. $P(5 < x < 10)$

v. מצאו את החציון של המשתנה.



(2) נתון משתנה מקרי רציף A שפונקציית הצפיפות שלו היא:

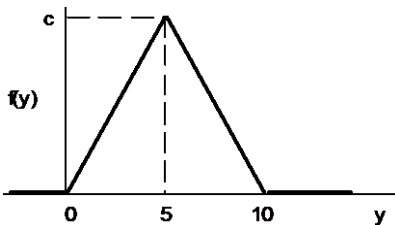
$$f(x) = \begin{cases} cx & 0 \leq x \leq b \\ 0 & \text{else} \end{cases}$$

וידוע ש- $P(0 < X < 1) = \frac{1}{4}$

א. מצאו במפורש את פונקציית הצפיפות של X .

ב. מצאו את החציון של X .

ג. מה הסיכוי ש- X קטן מ-0.5?



(3) נתונה פונקציית צפיפות של משתנה מקרי Y :

א. מצאו את c .

ב. מצאו את פונקציית ההתפלגות המצטברת של Y .

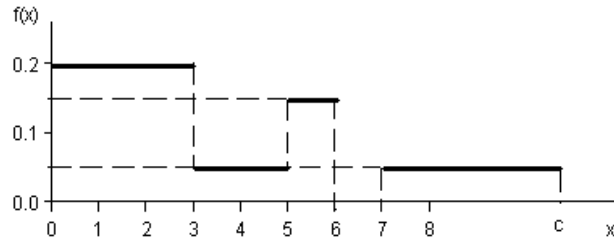
ג. חשבו את ההסתברויות הבאות:

$P(Y > 4)$, $P(7.5 \leq Y \leq 15.5)$, $P(Y \leq 3.0)$, $P(Y = 7.0)$

ד. מצאו את העשירון התחתון: $y_{0.1}$, הרבעון התחתון: $y_{0.25}$ והחציון של Y .

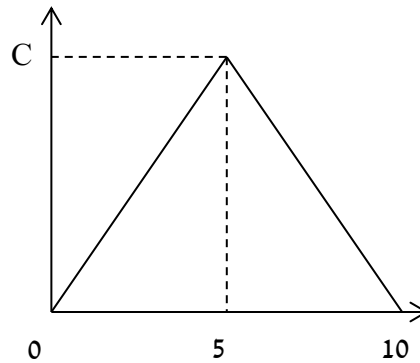
הסיקו מהו העשירון עליון: $y_{0.9}$.

4) נתונה פונקציית צפיפות של משתנה מקרי X :



- א. מצאו ערך c שעבורו תתקבל פונקציית צפיפות.
 ב. מצאו את פונקציית ההתפלגות המצטברת.
 ג. חשבו את ההסתברויות הבאות:
 $P(1.0 < X \leq 5.0)$, $P(X \geq -2.0)$, $P(X \geq 4)$.

5) נתונה פונקציית הצפיפות הבאה:



- א. מה ערכו של c ?
 ב. מצאו אינטרוול (תחום) סימטרי סביב הערך 5, שהסיכוי ליפול בו הינו 0.5.
 6) נתונה פונקציית צפיפות: $f(X) = \frac{2}{x}$, המוגדרת מ-1 עד K .
 א. מצאו את ערכו של K .
 ב. בנו את פונקציית ההתפלגות המצטברת.
 ג. חשבו את הסיכוי ש- X לפחות 1.5.
 ד. מצאו את העשירון התחתון של ההתפלגות.
 ה. מה התוחלת של X ?

(7) נתונה פונקציית צפיפות הבאה: $f(X) = AX^2(10 - X)$, $0 < X < 10$.

A הינו קבוע חיובי.

א. מצאו את A.

ב. חשב את: $P(x > 5 | x > 2)$.

ג. מה התוחלת ומהי השונות של X?

(8) פונקציית הצפיפות של משתנה מקרי רציף X:

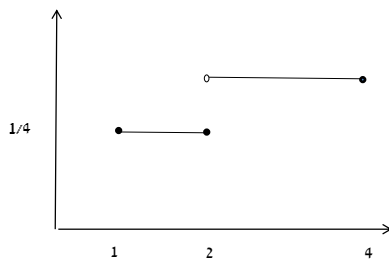
$$f(x) = 0.5 \cdot e^{2x}, \quad -\infty \leq X \leq \ln(c)$$

א. מצאו את ערכו של c.

ב. מצאו את פונקציית ההתפלגות המצטברת של ההתפלגות.

ג. חשב: $P(X > 0)$.

ד. מהו הרבעון העליון של ההתפלגות?



(9) נתונה פונקציית הצפיפות הבאה של משתנה מקרי X:

א. רשמו את נוסחת פונקציית הצפיפות.

ב. בנו את פונקציית ההתפלגות המצטברת.

ג. מצאו את החציון של ההתפלגות.

ד. חשבו את התוחלת והשונות של המשתנה.

ה. חשבו את: $E(X^3)$.

(10) במפעל מייצרים מוצר A. זמן תהליך הייצור של המוצר בשעות הוא בעל

$$f(x) = 6x(1-x), \quad 0 \leq x \leq 1$$

א. מה ההסתברות שזמן הייצור של מוצר A אקראי יהיה קטן מ-20 דקות?

ב. מה ההסתברות שזמן הייצור של מוצר A אקראי יהיה בדיוק חצי שעה?

ג. נבחרו חמישה מוצרים אקראיים מסוג A. מה תוחלת מספר המוצרים

שזמן הייצור שלהם יהיה גדול מ-20 דקות?

(11) זמן ההמתנה בדקות של לקוח בתור למכולת השכונתית מתפלג עם פונקציית

$$F(t) = 1 - e^{-0.2t}$$

א. שרטטו את פונקציית ההתפלגות המצטברת.

ב. מה הסיכוי שזמן ההמתנה יהיה לפחות רבע שעה?

ג. אם חיכיתי בתור כבר 10 דקות מה ההסתברות שאאלץ לחכות בסך הכול

פחות מרבע שעה?

ד. מהו הזמן ש-90% מהלקוחות מחכים מתחתיו?

12) פונקציית הצפיפות של משתנה מקרי נתונה על ידי הנוסחה הבאה :

$$f(x) = \begin{cases} 0 & x < 4 \\ bx - 4b & 4 \leq x \leq 5 \\ b & 5 < x \leq 6 \\ 0 & x > 6 \end{cases}$$

- א. מצאו את b .
 ב. חשבו את התוחלת של X .
 ג. y הוא משתנה אינדיקטור המקבל את הערך 1 אם X קטן מ-5. מהי השונות של y ?

13) נתונה פונקציית הצפיפות הבאה :

$$f(x) = \begin{cases} \frac{x^2}{4} & 1 \leq x \leq 2 \\ kx & 2 < x \leq 3 \end{cases}$$

- א. מצאו את ערכו של k .
 ב. מצאו את פונקציית ההתפלגות המצטברת.
 ג. חשבו $P(x > 2.5)$.

14) להלן משתנה מקרי בעל פונקציית צפיפות הבאה : $f(x) = \frac{1}{b-a}$, $a \leq x \leq b$

- א. מצאו את פונקציית ההתפלגות המצטברת.
 ב. חשב את התוחלת והשונות של ההתפלגות.
 ג. מצאו את התוחלת של $\frac{1}{X}$.

תשובות סופיות:

$$F(t) = \begin{cases} 0 & t < 1 \\ (t-1)0.25 & 1 \leq t \leq 2 \\ 0.25 + (t-2) \cdot \frac{3}{16} & 2 < t \leq 6 \\ 1 & t > 6 \end{cases} \quad \text{ב.} \quad \text{א. } \frac{3}{16} \quad \text{(1)}$$

ג. i. $\frac{5}{8}$

ii. $\frac{7}{8}$ iii. $\frac{11}{16}$ iv. $\frac{3}{16}$ v. $\frac{1}{3}$

א. $b=2, c=0.5$ ב. 1.41 ג. 0.0625 ד. 0.3

$$F(t) = \begin{cases} 0 & t < 0 \\ 0.02t^2 & 0 \leq t \leq 5 \\ 1 - 0.02(t-10)^2 & 5 < t \leq 10 \\ 1 & t > 10 \end{cases} \quad \text{ב.} \quad \text{א. } 0.2 \quad \text{(3)}$$

ג. 0, 0.18, 0.125, 0.32

ד. עשירון תחתון: 2.24, רבעון תחתון: 3.54, החציון: 5, עשירון עליון: 7.76

$$F(t) = \begin{cases} 0 & t < 0 \\ 0.2t & 0 < t \leq 3 \\ 0.6 + (t-3) \cdot 0.05 & 3 < t \leq 5 \\ 0.7 + (t-5) \cdot 0.15 & 5 < t \leq 6 \\ 0.85 & 6 < t \leq 7 \\ 0.85 + (t-7) \cdot 0.05 & 7 < t \leq 10 \\ 1 & t > 10 \end{cases} \quad \text{ב.} \quad \text{א. } 0.10 \quad \text{(4)}$$

ג. 0.5

א. $c=0.2$ ב. 0.5 ± 1.46 (5)

$$F(t) = \begin{cases} 0 & t < 1 \\ 2 \cdot \ln t & 1 \leq t \leq e^{\frac{1}{2}} \\ 1 & t > e^{\frac{1}{2}} \end{cases} \quad \text{ב.} \quad \text{א. } e^{\frac{1}{2}} \quad \text{(6)}$$

ג. 0.189

ד. 1.051 ה. 1.297

א. 0.0012 ב. 0.7067 ג. תוחלת: 6, שונות: 4 ד. 0.4 (7)

$$(8) \quad \text{א. 2.} \quad \text{ב.} \quad F(t) = \begin{cases} \frac{1}{4}e^{2t} & t \leq \ln(2) \\ 1 & t > \ln(2) \end{cases} \quad \text{ג. 0.75} \quad \text{ד. 0.549}$$

$$(9) \quad \text{א.} \quad F(x) = \begin{cases} \frac{1}{4} & 1 \leq x \leq 2 \\ \frac{3}{8} & 2 < x \leq 4 \\ 0 & \text{אחרת} \end{cases} \quad \text{ב.} \quad F(t) = \begin{cases} 0 & t < 1 \\ (t-1)0.25 & 1 \leq t \leq 2 \\ 0.25 + (t-2) \cdot \frac{3}{8} & 2 < t \leq 4 \\ 1 & t > 4 \end{cases}$$

$$\text{ג. } 2\frac{2}{3} \quad \text{ד. תוחלת: } 2.625, \text{ שונות: } 0.6927 \quad \text{ה. } 23.4375$$

$$(10) \quad \text{א.} \quad \frac{7}{27} \quad \text{ב. } 0 \quad \text{ג. } 3.704$$

$$(11) \quad \text{א. עיין סרטוט בוידאו} \quad \text{ב. } 0.0498 \quad \text{ג. } 0.6321 \quad \text{ד. } 11.51$$

$$(12) \quad \text{א.} \quad \frac{2}{3} \quad \text{ב. } 5.22 \quad \text{ג. } \frac{2}{9}$$

$$(13) \quad \text{א.} \quad \frac{1}{6} \quad \text{ב.} \quad F(t) = \begin{cases} 0 & t < 1 \\ \frac{t^3-1}{12} & 1 \leq t \leq 2 \\ \frac{7}{12} + \frac{t^2-4}{12} & 2 < t \leq 3 \\ 1 & t > 3 \end{cases} \quad \text{ג. } 0.229$$

$$(14) \quad \text{א.} \quad F(t) = \begin{cases} 0 & t < a \\ \frac{(t-b)}{b-a} & a \leq t \leq b \\ 1 & t > b \end{cases} \quad \text{ב. תוחלת: } E(X) = \frac{a+b}{2}, \text{ שונות: } V(x) = \frac{(b-a)^2}{12}$$

$$\text{ג.} \quad \frac{\ln\left(\frac{b}{a}\right)}{b-a}$$